

# National Testing Agency

**Question Paper Name :** 22S2 INT  
**Subject Name :** 22JunShift2 Subject Combination International  
**Creation Date :** 2023-06-22 16:00:01  
**Duration :** 675  
**Total Marks :** 2800  
**Display Marks:** Yes

## Spanish

**Group Number :** 1  
**Group Id :** 485584850  
**Group Maximum Duration :** 45  
**Group Minimum Duration :** 45  
**Show Attended Group? :** No  
**Edit Attended Group? :** No  
**Break time :** 0  
**Group Marks :** 200  
**Is this Group for Examiner? :** No  
**Examiner permission :** Cant View  
**Show Progress Bar? :** No

## Spanish

**Section Id :** 485584978  
**Section Number :** 1  
**Section type :** Online  
**Mandatory or Optional :** Mandatory  
**Number of Questions :** 50  
**Number of Questions to be attempted :** 40  
**Section Marks :** 200  
**Enable Mark as Answered Mark for Review and Clear Response :** Yes  
**Maximum Instruction Time :** 0  
**Sub-Section Number :** 1  
**Sub-Section Id :** 4855842782  
**Question Shuffling Allowed :** No  
**Is Section Default? :** null

**Question Number : 1 Question Id : 48558437381 Question Type : MCQ Option Shuffling : No Is Question Mandatory : No Calculator : None Response Time : N.A Think Time : N.A Minimum Instruction Time : 0**

**Correct Marks : 5 Wrong Marks : 1**

**Question Key Details :**

Key	Value
Comprehension	Comp1

Lee el texto y responde a las preguntas. Tenía yo trece años. Ella era encantadora. ¡Qué digo encantadora!

Era una de las mujeres más bonitas de París. Pero de eso yo no me daba cuenta. Yo la encontraba bonita ocurría que era extremadamente. Esto no era más que una coincidencia. Tenía una sonrisa adorable y ojos acariciadores. Soñaba con ella.

¿ Decírselo ? Antes de la muerte ¿ Entonces ?

Probárselo. Hacer economías durante toda la semana y cometer una locura el domingo siguiente. Hice estas economías y cometí esta locura.

Ocho francos : un enorme ramo de violetas, ¡Era magnífico! Era el más bello ramo de violetas que se haya visto nunca. Me hacían falta dos manos para llevarlo. Mi plan : llegar a su casa a las dos y solicitar verla. La cosa no fue fácil. Estaba ocupada. La camarera me condujo al gabinete. Se estaba peinando para salir. Entré con el corazón en un brinco.

- ¡Hola, pequeño! ¿ para qué quieres verme ?

No se había vuelto aún. No había visto el ramo, no podía comprenderlo.

- Para esto, señora. Y lo tendí mis ocho francos de violetas.

- ¡Oh, qué bonitas! Me pareció que la partida estaba ganada. Me había aproximado a ella, temblando, cogió entre sus manos mi ramo como se coge la cabeza de un niño y lo llevó a su bello rostro como para besarlo.

- ¡Y huele bien ! Luego, añadió despidiéndome ; Dale las gracias de mi parte a tu papá.

La frase "hacer economías" se refiere a :

- (1) vender
- (2) hablar
- (3) hacer cuentas
- (4) ahorrar

Options :

485584149521. 1

485584149522. 2

485584149523. 3

485584149524. 4

Question Number : 2 Question Id : 48558437382 Question Type : MCQ Option Shuffling : No Is Question Mandatory : No Calculator : None Response Time : N.A Think Time : N.A Minimum Instruction Time : 0

Correct Marks : 5 Wrong Marks : 1

Question Key Details :

Key	Value
Comprehension	Comp1

Lee el texto y responde a las preguntas. Tenía yo trece años. Ella era encantadora. ¡Qué digo encantadora!

Era una de las mujeres más bonitas de París. Pero de eso yo no me daba cuenta. Yo la encontraba bonita ocurría que era extremadamente. Esto no era más que una coincidencia. Tenía una sonrisa adorable y ojos acariciadores. Soñaba con ella.

¿ Decírselo ? Antes de la muerte ¿ Entonces ?

Probárselo. Hacer economías durante toda la semana y cometer una locura el domingo siguiente. Hice estas economías y cometí esta locura.

Ocho francos : un enorme ramo de violetas, ¡Era magnífico! Era el más bello ramo de violetas que se haya visto nunca. Me hacían falta dos manos para llevarlo. Mi plan : llegar a su casa a las dos y solicitar verla. La cosa no fue fácil. Estaba ocupada. La camarera me condujo al gabinete. Se estaba peinando para salir. Entré con el corazón en un brinco.

- ¡Hola, pequeño! ¿ para qué quieres verme ?

No se había vuelto aún. No había visto el ramo, no podía comprenderlo.

- Para esto, señora. Y lo tendí mis ocho francos de violetas.

- ¡Oh, qué bonitas! Me pareció que la partida estaba ganada. Me había aproximado a ella, temblando, cogió entre sus manos mi ramo como se coge la cabeza de un niño y lo llevó a su bello rostro como para besarlo.

- ¡Y huele bien ! Luego, añadió despidiéndome ; Dale las gracias de mi parte a tu papá.

¿ Dónde se desarrolla la historia ?

(1) En Italia

(2) En París

(3) En Valencia

(4) En México

Options :

485584149525. 1

485584149526. 2

485584149527. 3

485584149528. 4

Question Number : 3 Question Id : 48558437383 Question Type : MCQ Option Shuffling : No Is Question Mandatory : No Calculator : None Response Time : N.A Think Time : N.A Minimum Instruction Time : 0

Correct Marks : 5 Wrong Marks : 1

Question Key Details :

Key	Value
Comprehension	Comp1

Lee el texto y responde a las preguntas. Tenía yo trece años. Ella era encantadora. ¡Qué digo encantadora!

Era una de las mujeres más bonitas de París. Pero de eso yo no me daba cuenta. Yo la encontraba bonita ocurría que era extremadamente. Esto no era más que una coincidencia. Tenía una sonrisa adorable y ojos acariciadores. Soñaba con ella.

¿ Decírselo ? Antes de la muerte ¿ Entonces ?

Probárselo. Hacer economías durante toda la semana y cometer una locura el domingo siguiente. Hice estas economías y cometí esta locura.

Ocho francos : un enorme ramo de violetas, ¡Era magnífico! Era el más bello ramo de violetas que se haya visto nunca. Me hacían falta dos manos para llevarlo. Mi plan : llegar a su casa a las dos y solicitar verla. La cosa no fue fácil. Estaba ocupada. La camarera me condujo al gabinete. Se estaba peinando para salir. Entré con el corazón en un brinco.

- ¡Hola, pequeño! ¿ para qué quieres verme ?

No se había vuelto aún. No había visto el ramo, no podía comprenderlo.

- Para esto, señora. Y lo tendí mis ocho francos de violetas.

- ¡Oh, qué bonitas! Me pareció que la partida estaba ganada. Me había aproximado a ella, temblando, cogió entre sus manos mi ramo como se coge la cabeza de un niño y lo llevó a su bello rostro como para besarlo.

- ¡Y huele bien ! Luego, añadió despidiéndome : Dale las gracias de mi parte a tu papá.

¿ Cómo es la mujer ?

(1) bonita

(2) fea

(3) simpática

(4) amable

Options :

485584149529. 1

485584149530. 2

485584149531. 3

485584149532. 4

Question Number : 4 Question Id : 48558437384 Question Type : MCQ Option Shuffling : No Is Question Mandatory : No Calculator : None Response Time : N.A Think Time : N.A Minimum Instruction Time : 0

Correct Marks : 5 Wrong Marks : 1

Question Key Details :

Key	Value
Comprehension	Comp1

Lee el texto y responde a las preguntas. Tenía yo trece años. Ella era encantadora. ¡Qué digo encantadora!

Era una de las mujeres más bonitas de París. Pero de eso yo no me daba cuenta. Yo la encontraba bonita ocurría que era extremadamente. Esto no era más que una coincidencia. Tenía una sonrisa adorable y ojos acariciadores. Soñaba con ella.

¿ Decírselo ? Antes de la muerte ¿ Entonces ?

Probárselo. Hacer economías durante toda la semana y cometer una locura el domingo siguiente. Hice estas economías y cometí esta locura.

Ocho francos : un enorme ramo de violetas, ¡Era magnífico! Era el más bello ramo de violetas que se haya visto nunca. Me hacían falta dos manos para llevarlo. Mi plan : llegar a su casa a las dos y solicitar verla. La cosa no fue fácil. Estaba ocupada. La camarera me condujo al gabinete. Se estaba peinando para salir. Entré con el corazón en un brinco.

- ¡Hola, pequeño! ¿ para qué quieres verme ?

No se había vuelto aún. No había visto el ramo, no podía comprenderlo.

- Para esto, señora. Y lo tendí mis ocho francos de violetas.

- ¡Oh, qué bonitas! Me pareció que la partida estaba ganada. Me había aproximado a ella, temblando, cogió entre sus manos mi ramo como se coge la cabeza de un niño y lo llevó a su bello rostro como para besarlo.

- ¡Y huele bien ! Luego, añadió despidiéndome : Dale las gracias de mi parte a tu papá.

¿ Por qué el niño menciona que “le hacían falta dos manos para llevar el ramo” ?

- (1) Porque no tenía manos
- (2) Porque no podía cargar el ramo
- (3) Porque el ramo era enorme
- (4) Porque no le gusta

Options :

485584149533. 1

485584149534. 2

485584149535. 3

485584149536. 4

Question Number : 5 Question Id : 48558437385 Question Type : MCQ Option Shuffling : No Is Question Mandatory : No Calculator : None Response Time : N.A Think Time : N.A Minimum Instruction Time : 0

Correct Marks : 5 Wrong Marks : 1

Question Key Details :

Key	Value
Comprehension	Comp1

Lee el texto y responde a las preguntas. Tenía yo trece años. Ella era encantadora. ¡Qué digo encantadora!

Era una de las mujeres más bonitas de París. Pero de eso yo no me daba cuenta. Yo la encontraba bonita ocurría que era extremadamente. Esto no era más que una coincidencia. Tenía una sonrisa adorable y ojos acariciadores. Soñaba con ella.

¿ Decírselo ? Antes de la muerte ¿ Entonces ?

Probárselo. Hacer economías durante toda la semana y cometer una locura el domingo siguiente. Hice estas economías y cometí esta locura.

Ocho francos : un enorme ramo de violetas, ¡Era magnífico! Era el más bello ramo de violetas que se haya visto nunca. Me hacían falta dos manos para llevarlo. Mi plan : llegar a su casa a las dos y solicitar verla. La cosa no fue fácil. Estaba ocupada. La camarera me condujo al gabinete. Se estaba peinando para salir. Entré con el corazón en un brinco.

- ¡Hola, pequeño! ¿ para qué quieres verme ?

No se había vuelto aún. No había visto el ramo, no podía comprenderlo.

- Para esto, señora. Y lo tendí mis ocho francos de violetas.

- ¡Oh, qué bonitas! Me pareció que la partida estaba ganada. Me había aproximado a ella, temblando, cogió entre sus manos mi ramo como se coge la cabeza de un niño y lo llevó a su bello rostro como para besarlo.

- ¡Y huele bien ! Luego, añadió despidiéndome ; Dale las gracias de mi parte a tu papá.

¿ Por qué se deduce que el niño no quiere decirle a la señora lo que siente por ella ?

- (1) Porque no le gusta
- (2) Porque es menor que ella
- (3) Porque es mayor que ella
- (4) Porque es muy tímido

Options :

485584149537. 1

485584149538. 2

485584149539. 3

485584149540. 4

Question Number : 6 Question Id : 48558437386 Question Type : MCQ Option Shuffling : No Is Question Mandatory : No Calculator : None Response Time : N.A Think Time : N.A Minimum Instruction Time : 0

Correct Marks : 5 Wrong Marks : 1

Question Key Details :

Key	Value
Comprehension	Comp1

Lee el texto y responde a las preguntas. Tenía yo trece años. Ella era encantadora. ¡Qué digo encantadora!

Era una de las mujeres más bonitas de París. Pero de eso yo no me daba cuenta. Yo la encontraba bonita ocurría que era extremadamente. Esto no era más que una coincidencia. Tenía una sonrisa adorable y ojos acariciadores. Soñaba con ella.

¿ Decírselo ? Antes de la muerte ¿ Entonces ?

Probárselo. Hacer economías durante toda la semana y cometer una locura el domingo siguiente. Hice estas economías y cometí esta locura.

Ocho francos : un enorme ramo de violetas, ¡Era magnífico! Era el más bello ramo de violetas que se haya visto nunca. Me hacían falta dos manos para llevarlo. Mi plan : llegar a su casa a las dos y solicitar verla. La cosa no fue fácil. Estaba ocupada. La camarera me condujo al gabinete. Se estaba peinando para salir. Entré con el corazón en un brinco.

- ¡Hola, pequeño! ¿ para qué quieres verme ?

No se había vuelto aún. No había visto el ramo, no podía comprenderlo.

- Para esto, señora. Y lo tendí mis ocho francos de violetas.

- ¡Oh, qué bonitas! Me pareció que la partida estaba ganada. Me había aproximado a ella, temblando, cogió entre sus manos mi ramo como se coge la cabeza de un niño y lo llevó a su bello rostro como para besarlo.

- ¡Y huele bien ! Luego, añadió despidiéndome : Dale las gracias de mi parte a tu papá.

¿ Cuántos años tenía el chico cuando se enamoró de la mujer bonita ?

(1) 13

(2) 18

(3) 20

(4) 10

Options :

485584149541. 1

485584149542. 2

485584149543. 3

485584149544. 4

Question Number : 7 Question Id : 48558437387 Question Type : MCQ Option Shuffling : No Is Question Mandatory : No Calculator : None Response Time : N.A Think Time : N.A Minimum Instruction Time : 0

Correct Marks : 5 Wrong Marks : 1

Question Key Details :

Key	Value
Comprehension	Comp1

Lee el texto y responde a las preguntas. Tenía yo trece años. Ella era encantadora. ¡Qué digo encantadora!

Era una de las mujeres más bonitas de París. Pero de eso yo no me daba cuenta. Yo la encontraba bonita ocurría que era extremadamente. Esto no era más que una coincidencia. Tenía una sonrisa adorable y ojos acariciadores. Soñaba con ella.

¿ Decírselo ? Antes de la muerte ¿ Entonces ?

Probárselo. Hacer economías durante toda la semana y cometer una locura el domingo siguiente. Hice estas economías y cometí esta locura.

Ocho francos : un enorme ramo de violetas. ¡Era magnífico! Era el más bello ramo de violetas que se haya visto nunca. Me hacían falta dos manos para llevarlo. Mi plan : llegar a su casa a las dos y solicitar verla. La cosa no fue fácil. Estaba ocupada. La camarera me condujo al gabinete. Se estaba peinando para salir. Entré con el corazón en un brinco.

- ¡Hola, pequeño! ¿ para qué quieres verme ?

No se había vuelto aún. No había visto el ramo, no podía comprenderlo.

- Para esto, señora. Y lo tendí mis ocho francos de violetas.

- ¡Oh, qué bonitas! Me pareció que la partida estaba ganada. Me había aproximado a ella, temblando, cogió entre sus manos mi ramo como se coge la cabeza de un niño y lo llevó a su bello rostro como para besarlo.

- ¡Y huele bien ! Luego, añadió despidiéndome : Dale las gracias de mi parte a tu papá.

¿ A quién da las gracias la mujer bonita al recibir el ramo de flores ?

- (1) al chico que le regaló el ramo
- (2) al padre del chico
- (3) al hermano del chico
- (4) al tío del chico

Options :

485584149545. 1

485584149546. 2

485584149547. 3

485584149548. 4

Sub-Section Number :

2

Sub-Section Id :

4855842783

Question Shuffling Allowed :

No

Is Section Default? :

null

Question Number : 8 Question Id : 48558437388 Question Type : MCQ Option Shuffling : No Is Question Mandatory : No Calculator : None Response Time : N.A Think Time : N.A Minimum Instruction Time : 0

Correct Marks : 5 Wrong Marks : 1

Question Key Details :

Key	Value
Comprehension	Comp2



Lee el texto y responde a las preguntas.

## EL CHE GUEVARA

Ernesto Guevara, conocido en todo el mundo como "Che Guevara" O "El Che" nació en Rosario, Argentina, 1928. A los 9 años se trasladó con su familia a Buenos Aires y unos años después se fue a vivir a Alta Gracia. (cerca de Córdoba). En 1952 hizo un viaje por América Latina en el que recorrió Chile, Bolivia, Perú y Colombia. El contacto directo con la difícil realidad social de la zona fue una experiencia determinante para sus ideas revolucionarias. La película Diarios de motocicleta, protagonizada por el actor mexicano Gael García Bernal en 2004, narra ese viaje.

En 1953, cuando terminó sus estudios de medicina, se fue de Argentina para dirigirse a Centroamérica, donde apoyó los movimientos revolucionarios de Guatemala y Costa Rica. En 1955 trabajó de médico en México y allí conoció a Fidel Castro. A partir de ese momento y durante diez años, la vida del "Che" estuvo totalmente dedicada a Cuba : participó en la Revolución, obtuvo la nacionalidad cubana, fue comandante del ejército y fue dos veces ministro. En 1965 abandonó su trabajo en Cuba y se dedicó de nuevo a la lucha activa, primero en África y luego en Sudamérica. Murió en Bolivia en 1967, asesinado por el (ejército) boliviano. Está enterrado en Cuba, país que lo ha considerado siempre un héroe nacional.

¿ Dónde Ernesto Guevara conoció a Fidel Castro ?

- (1) Bolivia
- (2) México
- (3) Argentina
- (4) Cuba

Options :

485584149549. 1

485584149550. 2

485584149551. 3

485584149552. 4

Question Number : 9 Question Id : 48558437389 Question Type : MCQ Option Shuffling : No Is Question Mandatory : No Calculator : None Response Time : N.A Think Time : N.A Minimum Instruction Time : 0

Correct Marks : 5 Wrong Marks : 1

Question Key Details :

Key	Value
Comprehension	Comp2

Lee el texto y responde a las preguntas.

## EL CHE GUEVARA

Ernesto Guevara, conocido en todo el mundo como "Che Guevara" O "El Che" nació en Rosario, Argentina, 1928. A los 9 años se trasladó con su familia a Buenos Aires y unos años después se fue a vivir a Alta Gracia. (cerca de Córdoba). En 1952 hizo un viaje por América Latina en el que recorrió Chile, Bolivia, Perú y Colombia. El contacto directo con la difícil realidad social de la zona fue una experiencia determinante para sus ideas revolucionarias. La película Diarios de motocicleta, protagonizada por el actor mexicano Gael García Bernal en 2004, narra ese viaje.

En 1953, cuando terminó sus estudios de medicina, se fue de Argentina para dirigirse a Centroamérica, donde apoyó los movimientos revolucionarios de Guatemala y Costa Rica. En 1955 trabajó de médico en México y allí conoció a Fidel Castro. A partir de ese momento y durante diez años, la vida del "Che" estuvo totalmente dedicada a Cuba : participó en la Revolución, obtuvo la nacionalidad cubana, fue comandante del ejército y fue dos veces ministro. En 1965 abandonó su trabajo en Cuba y se dedicó de nuevo a la lucha activa, primero en África y luego en Sudamérica. Murió en Bolivia en 1967, asesinado por el (ejército) boliviano. Está enterrado en Cuba, país que lo ha considerado siempre un héroe nacional.

¿ Cómo murió Ernesto Guevara ?

- (1) se suicidó
- (2) tuvo un accidente
- (3) fue asesinado por el ejército boliviano
- (4) fue capturado por el ejército colombiano

Options :

485584149553. 1

485584149554. 2

485584149555. 3

485584149556. 4

Question Number : 10 Question Id : 48558437390 Question Type : MCQ Option Shuffling : No Is Question Mandatory : No Calculator : None  
Response Time : N.A Think Time : N.A Minimum Instruction Time : 0

Correct Marks : 5 Wrong Marks : 1

Question Key Details :

Key	Value
Comprehension	Comp2

Lee el texto y responde a las preguntas.

## EL CHE GUEVARA

Ernesto Guevara, conocido en todo el mundo como "Che Guevara" O "El Che" nació en Rosario, Argentina, 1928. A los 9 años se trasladó con su familia a Buenos Aires y unos años después se fue a vivir a Alta Gracia. (cerca de Córdoba). En 1952 hizo un viaje por América Latina en el que recorrió Chile, Bolivia, Perú y Colombia. El contacto directo con la difícil realidad social de la zona fue una experiencia determinante para sus ideas revolucionarias. La película Diarios de motocicleta, protagonizada por el actor mexicano Gael García Bernal en 2004, narra ese viaje.

En 1953, cuando terminó sus estudios de medicina, se fue de Argentina para dirigirse a Centroamérica, donde apoyó los movimientos revolucionarios de Guatemala y Costa Rica. En 1955 trabajó de médico en México y allí conoció a Fidel Castro. A partir de ese momento y durante diez años, la vida del "Che" estuvo totalmente dedicada a Cuba : participó en la Revolución, obtuvo la nacionalidad cubana, fue comandante del ejército y fue dos veces ministro. En 1965 abandonó su trabajo en Cuba y se dedicó de nuevo a la lucha activa, primero en África y luego en Sudamérica. Murió en Bolivia en 1967, asesinado por el (ejército) boliviano. Está enterrado en Cuba, país que lo ha considerado siempre un héroe nacional.

¿ Che Guevara obtuvo la nacionalidad de qué país durante su vida ?

- (1) México
- (2) Colombia
- (3) Chile
- (4) Cuba

**Options :**

- 485584149557. 1
- 485584149558. 2
- 485584149559. 3
- 485584149560. 4

Question Number : 11 Question Id : 48558437391 Question Type : MCQ Option Shuffling : No Is Question Mandatory : No Calculator : None  
Response Time : N.A Think Time : N.A Minimum Instruction Time : 0

Correct Marks : 5 Wrong Marks : 1

**Question Key Details :**

Key	Value
Comprehension	Comp2

Lee el texto y responde a las preguntas.

## EL CHE GUEVARA

Ernesto Guevara, conocido en todo el mundo como "Che Guevara" O "El Che" nació en Rosario, Argentina,1928. A los 9 años se trasladó con su familia a Buenos Aires y unos años después se fue a vivir a Alta Gracia. (cerca de Córdoba). En 1952 hizo un viaje por América Latina en el que recorrió Chile, Bolivia, Perú y Colombia. El contacto directo con la difícil realidad social de la zona fue una experiencia determinante para sus ideas revolucionarias. La película Diarios de motocicleta, protagonizada por el actor mexicano Gael García Bernal en 2004, narra ese viaje.

En 1953, cuando terminó sus estudios de medicina, se fue de Argentina para dirigirse a Centroamérica, donde apoyó los movimientos revolucionarios de Guatemala y Costa Rica. En 1955 trabajó de médico en México y allí conoció a Fidel Castro. A partir de ese momento y durante diez años, la vida del "Che" estuvo totalmente dedicada a Cuba : participó en la Revolución, obtuvo la nacionalidad cubana, fue comandante del ejército y fue dos veces ministro. En 1965 abandonó su trabajo en Cuba y se dedicó de nuevo a la lucha activa, primero en África y luego en Sudamérica. Murió en Bolivia en 1967, asesinado por el (ejército) boliviano. Está enterrado en Cuba, país que lo ha considerado siempre un héroe nacional.

¿ Qué actor protagonizó en la película basada en la vida de Che Guevara ?

- (1) Gael Garcia Bernal
- (2) Javier Bardem
- (3) Fidel Castro
- (4) Che Guevara

**Options :**

485584149561. 1

485584149562. 2

485584149563. 3

485584149564. 4

**Question Number : 12 Question Id : 48558437392 Question Type : MCQ Option Shuffling : No Is Question Mandatory : No Calculator : None Response Time : N.A Think Time : N.A Minimum Instruction Time : 0**

**Correct Marks : 5 Wrong Marks : 1**

**Question Key Details :**

Key	Value
Comprehension	Comp2

Lee el texto y responde a las preguntas.

## EL CHE GUEVARA

Ernesto Guevara, conocido en todo el mundo como "Che Guevara" O "El Che" nació en Rosario, Argentina,1928. A los 9 años se trasladó con su familia a Buenos Aires y unos años después se fue a vivir a Alta Gracia. (cerca de Córdoba). En 1952 hizo un viaje por América Latina en el que recorrió Chile, Bolivia, Perú y Colombia. El contacto directo con la difícil realidad social de la zona fue una experiencia determinante para sus ideas revolucionarias. La película Diarios de motocicleta, protagonizada por el actor mexicano Gael García Bernal en 2004, narra ese viaje.

En 1953, cuando terminó sus estudios de medicina, se fue de Argentina para dirigirse a Centroamérica, donde apoyó los movimientos revolucionarios de Guatemala y Costa Rica. En 1955 trabajó de médico en México y allí conoció a Fidel Castro. A partir de ese momento y durante diez años, la vida del "Che" estuvo totalmente dedicada a Cuba : participó en la Revolución, obtuvo la nacionalidad cubana, fue comandante del ejército y fue dos veces ministro. En 1965 abandonó su trabajo en Cuba y se dedicó de nuevo a la lucha activa, primero en África y luego en Sudamérica. Murió en Bolivia en 1967, asesinado por el (ejército) boliviano. Está enterrado en Cuba, país que lo ha considerado siempre un héroe nacional.

¿ Cuándo murió Che Guevara ?

- (1) 1928
- (2) 1967
- (3) 1955
- (4) 1965

Options :

- 485584149565. 1
- 485584149566. 2
- 485584149567. 3
- 485584149568. 4

Question Number : 13 Question Id : 48558437393 Question Type : MCQ Option Shuffling : No Is Question Mandatory : No Calculator : None Response Time : N.A Think Time : N.A Minimum Instruction Time : 0

Correct Marks : 5 Wrong Marks : 1

Question Key Details :

Key	Value
Comprehension	Comp2

Lee el texto y responde a las preguntas.

## EL CHE GUEVARA

Ernesto Guevara, conocido en todo el mundo como "Che Guevara" O "El Che" nació en Rosario, Argentina,1928. A los 9 años se trasladó con su familia a Buenos Aires y unos años después se fue a vivir a Alta Gracia. (cerca de Córdoba). En 1952 hizo un viaje por América Latina en el que recorrió Chile, Bolivia, Perú y Colombia. El contacto directo con la difícil realidad social de la zona fue una experiencia determinante para sus ideas revolucionarias. La película Diarios de motocicleta, protagonizada por el actor mexicano Gael García Bernal en 2004, narra ese viaje.

En 1953, cuando terminó sus estudios de medicina, se fue de Argentina para dirigirse a Centroamérica, donde apoyó los movimientos revolucionarios de Guatemala y Costa Rica. En 1955 trabajó de médico en México y allí conoció a Fidel Castro. A partir de ese momento y durante diez años, la vida del "Che" estuvo totalmente dedicada a Cuba : participó en la Revolución, obtuvo la nacionalidad cubana, fue comandante del ejército y fue dos veces ministro. En 1965 abandonó su trabajo en Cuba y se dedicó de nuevo a la lucha activa, primero en África y luego en Sudamérica. Murió en Bolivia en 1967, asesinado por el (ejército) boliviano. Está enterrado en Cuba, país que lo ha considerado siempre un héroe nacional.

¿ Cómo se llama la película basada en la vida de Che Guevara ?

- (1) Revolución en Cuba
- (2) El Che
- (3) La vida en Alta Garcia
- (4) Diarios de motocicleta

**Options :**

485584149569. 1

485584149570. 2

485584149571. 3

485584149572. 4

**Question Number : 14 Question Id : 48558437394 Question Type : MCQ Option Shuffling : No Is Question Mandatory : No Calculator : None Response Time : N.A Think Time : N.A Minimum Instruction Time : 0**

**Correct Marks : 5 Wrong Marks : 1**

**Question Key Details :**

Key	Value
Comprehension	Comp2

Lee el texto y responde a las preguntas.

## EL CHE GUEVARA

Ernesto Guevara, conocido en todo el mundo como "Che Guevara" O "El Che" nació en Rosario, Argentina,1928. A los 9 años se trasladó con su familia a Buenos Aires y unos años después se fue a vivir a Alta Gracia. (cerca de Córdoba). En 1952 hizo un viaje por América Latina en el que recorrió Chile, Bolivia, Perú y Colombia. El contacto directo con la difícil realidad social de la zona fue una experiencia determinante para sus ideas revolucionarias. La película Diarios de motocicleta, protagonizada por el actor mexicano Gael García Bernal en 2004, narra ese viaje.

En 1953, cuando terminó sus estudios de medicina, se fue de Argentina para dirigirse a Centroamérica, donde apoyó los movimientos revolucionarios de Guatemala y Costa Rica. En 1955 trabajó de médico en México y allí conoció a Fidel Castro. A partir de ese momento y durante diez años, la vida del "Che" estuvo totalmente dedicada a Cuba : participó en la Revolución, obtuvo la nacionalidad cubana, fue comandante del ejército y fue dos veces ministro. En 1965 abandonó su trabajo en Cuba y se dedicó de nuevo a la lucha activa, primero en África y luego en Sudamérica. Murió en Bolivia en 1967, asesinado por el (ejército) boliviano. Está enterrado en Cuba, país que lo ha considerado siempre un héroe nacional.

¿ A qué país no se fue durante su viaje a América Latina en 1952 ?

- (1) Perú
- (2) Colombia
- (3) Cuba
- (4) Chile

**Options :**

485584149573. 1  
485584149574. 2  
485584149575. 3  
485584149576. 4

**Sub-Section Number :** 3  
**Sub-Section Id :** 4855842784  
**Question Shuffling Allowed :** No  
**Is Section Default? :** null

**Question Number :** 15 **Question Id :** 48558437395 **Question Type :** MCQ **Option Shuffling :** No **Is Question Mandatory :** No **Calculator :** None  
**Response Time :** N.A **Think Time :** N.A **Minimum Instruction Time :** 0

**Correct Marks :** 5 **Wrong Marks :** 1

**Question Key Details :**

Key	Value
Comprehension	Comp3

Lee el texto y responde a las preguntas.

### La Navidad en España y otras celebraciones

En España las navidades son muy importantes. La primera fecha destacada es el 24 de diciembre por la noche; es el día de Nochebuena. Esa noche es muy especial porque la familia se reúne para cenar, cantar villancicos y disfrutar del tiempo junto. Los villancicos son las canciones que se cantan en Navidad. Es la noche en la que nace el niño Jesús, y el 25 de diciembre es el día de Navidad. Ese día la gente va a las iglesias y pasa tiempo con su familia.

El 28 de diciembre es el día de los inocentes. Este día las personas se gastan bromas, como por ejemplo, contar una mentira o pegar un monigote de papel en la espalda de la gente. Cuando gastamos la inocentada, le decimos ¡Inocente, Inocente! Y todo el mundo se ríe.

El 31 de diciembre es la noche de Nochevieja, es una noche en la que los españoles mostramos todas nuestras supersticiones : para recibir el año usamos ropa interior roja porque trae buena suerte y comemos doce uvas cuando suenan las 12 campanadas que indican la entrada en año. Después de comer las uvas hay una gran fiesta, en la que se brinda con champán y se baila toda la noche. El día siguiente, 1 de enero, es el día de Año nuevo y todos descansamos de la fiesta de la noche anterior.

La última fiesta que celebramos es el Día de Reyes, el 6 de enero. Es el día en el que los tres Reyes Magos de Oriente traen regalos a las casas, pero solo a quien se ha portado bien, quien se porta mal solo recibe carbón. Siempre pasan por las calles la noche del 5 de enero en la cabalgata de Reyes, lanzando caramelos a los niños. También comemos el roscón de reyes, que es un dulce en forma de roscón, relleno de crema y que tiene una corona de cartón. Este dulce trae dentro una judía (la persona que la encuentra tiene que pagar el roscón) y también una sorpresa, una figurita, quien la encuentra, es el rey de la reunión y tiene derecho a ponerse la corona del roscón.

¿ Qué sucede si le toca a alguien la judía del roscón ?

- (1) tiene que pagarlo
- (2) tiene que comprar otro
- (3) dices : ¡Inocente, Inocente!
- (4) descansa el día siguiente

Options :

485584149577. 1

485584149578. 2

485584149579. 3

485584149580. 4

Question Number : 16 Question Id : 48558437396 Question Type : MCQ Option Shuffling : No Is Question Mandatory : No Calculator : None

Response Time : N.A Think Time : N.A Minimum Instruction Time : 0

Correct Marks : 5 Wrong Marks : 1

Question Key Details :

Key	Value
Comprehension	Comp3



Lee el texto y responde a las preguntas.

## La Navidad en España y otras celebraciones

En España las navidades son muy importantes. La primera fecha destacada es el 24 de diciembre por la noche; es el día de Nochebuena. Esa noche es muy especial porque la familia se reúne para cenar, cantar villancicos y disfrutar del tiempo junto. Los villancicos son las canciones que se cantan en Navidad. Es la noche en la que nace el niño Jesús, y el 25 de diciembre es el día de Navidad. Ese día la gente va a las iglesias y pasa tiempo con su familia.

El 28 de diciembre es el día de los inocentes. Este día las personas se gastan bromas, como por ejemplo, contar una mentira o pegar un monigote de papel en la espalda de la gente. Cuando gastamos la inocentada, le decimos ; Inocente, Inocente! Y todo el mundo se ríe.

El 31 de diciembre es la noche de Nochevieja, es una noche en la que los españoles mostramos todas nuestras supersticiones : para recibir el año usamos ropa interior roja porque trae buena suerte y comemos doce uvas cuando suenan las 12 campanadas que indican la entrada en año. Después de comer las uvas hay una gran fiesta, en la que se brinda con champán y se baila toda la noche. El día siguiente, 1 de enero, es el día de Año nuevo y todos descansamos de la fiesta de la noche anterior.

La última fiesta que celebramos es el Día de Reyes, el 6 de enero. Es el día en el que los tres Reyes Magos de Oriente traen regalos a las casas, pero solo a quien se ha portado bien, quien se porta mal solo recibe carbón. Siempre pasan por las calles la noche del 5 de enero en la cabalgata de Reyes, lanzando caramelos a los niños. También comemos el roscón de reyes, que es un dulce en forma de roscón, relleno de crema y que tiene una corona de cartón. Este dulce trae dentro una judía (la persona que la encuentra tiene que pagar el roscón) y también una sorpresa, una figurita, quien la encuentra, es el rey de la reunión y tiene derecho a ponerse la corona del roscón.

¿ Qué se hace el día de los inocentes ?

- (1) Comer el roscón de Reyes
- (2) Hacer regalos
- (3) Decorar la casa
- (4) Gastar bromas

Options :

485584149581. 1

485584149582. 2

485584149583. 3

485584149584. 4

Question Number : 17 Question Id : 48558437397 Question Type : MCQ Option Shuffling : No Is Question Mandatory : No Calculator : None Response Time : N.A Think Time : N.A Minimum Instruction Time : 0

Correct Marks : 5 Wrong Marks : 1

Question Key Details :

Key	Value
Comprehension	Comp3

Lee el texto y responde a las preguntas.

### La Navidad en España y otras celebraciones

En España las navidades son muy importantes. La primera fecha destacada es el 24 de diciembre por la noche; es el día de Nochebuena. Esa noche es muy especial porque la familia se reúne para cenar, cantar villancicos y disfrutar del tiempo junto. Los villancicos son las canciones que se cantan en Navidad. Es la noche en la que nace el niño Jesús, y el 25 de diciembre es el día de Navidad. Ese día la gente va a las iglesias y pasa tiempo con su familia.

El 28 de diciembre es el día de los inocentes. Este día las personas se gastan bromas, como por ejemplo, contar una mentira o pegar un monigote de papel en la espalda de la gente. Cuando gastamos la inocentada, le decimos ; Inocente, Inocente! Y todo el mundo se ríe.

El 31 de diciembre es la noche de Nochevieja, es una noche en la que los españoles mostramos todas nuestras supersticiones : para recibir el año usamos ropa interior roja porque trae buena suerte y comemos doce uvas cuando suenan las 12 campanadas que indican la entrada en año. Después de comer las uvas hay una gran fiesta, en la que se brinda con champán y se baila toda la noche. El día siguiente, 1 de enero, es el día de Año nuevo y todos descansamos de la fiesta de la noche anterior.

La última fiesta que celebramos es el Día de Reyes, el 6 de enero. Es el día en el que los tres Reyes Magos de Oriente traen regalos a las casas, pero solo a quien se ha portado bien, quien se porta mal solo recibe carbón. Siempre pasan por las calles la noche del 5 de enero en la cabalgata de Reyes, lanzando caramelos a los niños. También comemos el roscón de reyes, que es un dulce en forma de roscón, relleno de crema y que tiene una corona de cartón. Este dulce trae dentro una judía (la persona que la encuentra tiene que pagar el roscón) y también una sorpresa, una figurita, quien la encuentra, es el rey de la reunión y tiene derecho a ponerse la corona del roscón.

¿ Qué son las canciones que se cantan en Navidad ?

- (1) Cabalgata
- (2) Magos de Oriente
- (3) Villancicos
- (4) Caramelos

Options :

485584149585. 1

485584149586. 2

485584149587. 3

485584149588. 4

Question Number : 18 Question Id : 48558437398 Question Type : MCQ Option Shuffling : No Is Question Mandatory : No Calculator : None Response Time : N.A Think Time : N.A Minimum Instruction Time : 0

Correct Marks : 5 Wrong Marks : 1

Question Key Details :

Key	Value
Comprehension	Comp3

Lee el texto y responde a las preguntas.

### La Navidad en España y otras celebraciones

En España las navidades son muy importantes. La primera fecha destacada es el 24 de diciembre por la noche; es el día de Nochebuena. Esa noche es muy especial porque la familia se reúne para cenar, cantar villancicos y disfrutar del tiempo junto. Los villancicos son las canciones que se cantan en Navidad. Es la noche en la que nace el niño Jesús, y el 25 de diciembre es el día de Navidad. Ese día la gente va a las iglesias y pasa tiempo con su familia.

El 28 de diciembre es el día de los inocentes. Este día las personas se gastan bromas, como por ejemplo, contar una mentira o pegar un monigote de papel en la espalda de la gente. Cuando gastamos la inocentada, le decimos ¡Inocente, Inocente! Y todo el mundo se ríe.

El 31 de diciembre es la noche de Nochevieja, es una noche en la que los españoles mostramos todas nuestras supersticiones : para recibir el año usamos ropa interior roja porque trae buena suerte y comemos doce uvas cuando suenan las 12 campanadas que indican la entrada en año. Después de comer las uvas hay una gran fiesta, en la que se brinda con champán y se baila toda la noche. El día siguiente, 1 de enero, es el día de Año nuevo y todos descansamos de la fiesta de la noche anterior.

La última fiesta que celebramos es el Día de Reyes, el 6 de enero. Es el día en el que los tres Reyes Magos de Oriente traen regalos a las casas, pero solo a quien se ha portado bien, quien se porta mal solo recibe carbón. Siempre pasan por las calles la noche del 5 de enero en la cabalgata de Reyes, lanzando caramelos a los niños. También comemos el roscón de reyes, que es un dulce en forma de roscón, relleno de crema y que tiene una corona de cartón. Este dulce trae dentro una judía (la persona que la encuentra tiene que pagar el roscón) y también una sorpresa, una figurita, quien la encuentra, es el rey de la reunión y tiene derecho a ponerse la corona del roscón.

¿ Qué se dice la persona cuando se gasta una broma a una inocentada el 28 de diciembre ?

- (1) ¡Mentira, Mentira!
- (2) ¡Inocente, Inocente!
- (3) ¡Fiesta, Fiesta!
- (4) ¡Regalo, Regalo!

Options :

485584149589. 1

485584149590. 2

485584149591. 3

485584149592. 4

Question Number : 19 Question Id : 48558437399 Question Type : MCQ Option Shuffling : No Is Question Mandatory : No Calculator : None

Response Time : N.A Think Time : N.A Minimum Instruction Time : 0

Correct Marks : 5 Wrong Marks : 1

Question Key Details :

Key	Value
Comprehension	Comp3

Lee el texto y responde a las preguntas.

### La Navidad en España y otras celebraciones

En España las navidades son muy importantes. La primera fecha destacada es el 24 de diciembre por la noche; es el día de Nochebuena. Esa noche es muy especial porque la familia se reúne para cenar, cantar villancicos y disfrutar del tiempo junto. Los villancicos son las canciones que se cantan en Navidad. Es la noche en la que nace el niño Jesús, y el 25 de diciembre es el día de Navidad. Ese día la gente va a las iglesias y pasa tiempo con su familia.

El 28 de diciembre es el día de los inocentes. Este día las personas se gastan bromas, como por ejemplo, contar una mentira o pegar un monigote de papel en la espalda de la gente. Cuando gastamos la inocentada, le decimos ; Inocente, Inocente! Y todo el mundo se ríe.

El 31 de diciembre es la noche de Nochevieja, es una noche en la que los españoles mostramos todas nuestras supersticiones : para recibir el año usamos ropa interior roja porque trae buena suerte y comemos doce uvas cuando suenan las 12 campanadas que indican la entrada en año. Después de comer las uvas hay una gran fiesta, en la que se brinda con champán y se baila toda la noche. El día siguiente, 1 de enero, es el día de Año nuevo y todos descansamos de la fiesta de la noche anterior.

La última fiesta que celebramos es el Día de Reyes, el 6 de enero. Es el día en el que los tres Reyes Magos de Oriente traen regalos a las casas, pero solo a quien se ha portado bien, quien se porta mal solo recibe carbón. Siempre pasan por las calles la noche del 5 de enero en la cabalgata de Reyes, lanzando caramelos a los niños. También comemos el roscón de reyes, que es un dulce en forma de roscón, relleno de crema y que tiene una corona de cartón. Este dulce trae dentro una judía (la persona que la encuentra tiene que pagar el roscón) y también una sorpresa, una figurita, quien la encuentra, es el rey de la reunión y tiene derecho a ponerse la corona del roscón.

¿ De qué color se usa la ropa interior para traer buena suerte ?

- (1) Rojo
- (2) Rosa
- (3) Amarillo
- (4) Azul

Options :

485584149593. 1

485584149594. 2

485584149595. 3

485584149596. 4

Question Number : 20 Question Id : 48558437400 Question Type : MCQ Option Shuffling : No Is Question Mandatory : No Calculator : None Response Time : N.A Think Time : N.A Minimum Instruction Time : 0

Correct Marks : 5 Wrong Marks : 1

Question Key Details :

Key	Value
Comprehension	Comp3

Lee el texto y responde a las preguntas.

### La Navidad en España y otras celebraciones

En España las navidades son muy importantes. La primera fecha destacada es el 24 de diciembre por la noche; es el día de Nochebuena. Esa noche es muy especial porque la familia se reúne para cenar, cantar villancicos y disfrutar del tiempo junto. Los villancicos son las canciones que se cantan en Navidad. Es la noche en la que nace el niño Jesús, y el 25 de diciembre es el día de Navidad. Ese día la gente va a las iglesias y pasa tiempo con su familia.

El 28 de diciembre es el día de los inocentes. Este día las personas se gastan bromas, como por ejemplo, contar una mentira o pegar un monigote de papel en la espalda de la gente. Cuando gastamos la inocentada, le decimos ; Inocente, Inocente! Y todo el mundo se ríe.

El 31 de diciembre es la noche de Nochevieja, es una noche en la que los españoles mostramos todas nuestras supersticiones : para recibir el año usamos ropa interior roja porque trae buena suerte y comemos doce uvas cuando suenan las 12 campanadas que indican la entrada en año. Después de comer las uvas hay una gran fiesta, en la que se brinda con champán y se baila toda la noche. El día siguiente, 1 de enero, es el día de Año nuevo y todos descansamos de la fiesta de la noche anterior.

La última fiesta que celebramos es el Día de Reyes, el 6 de enero. Es el día en el que los tres Reyes Magos de Oriente traen regalos a las casas, pero solo a quien se ha portado bien, quien se porta mal solo recibe carbón. Siempre pasan por las calles la noche del 5 de enero en la cabalgata de Reyes, lanzando caramelos a los niños. También comemos el roscón de reyes, que es un dulce en forma de roscón, relleno de crema y que tiene una corona de cartón. Este dulce trae dentro una judía (la persona que la encuentra tiene que pagar el roscón) y también una sorpresa, una figurita, quien la encuentra, es el rey de la reunión y tiene derecho a ponerse la corona del roscón.

¿ Qué se celebra el 6 de enero ?

- (1) Nochebuena
- (2) Nochevieja
- (3) Día de los inocentes
- (4) Día de los Reyes Magos

Options :

485584149597. 1

485584149598. 2

485584149599. 3

485584149600. 4

Question Number : 21 Question Id : 48558437401 Question Type : MCQ Option Shuffling : No Is Question Mandatory : No Calculator : None Response Time : N.A Think Time : N.A Minimum Instruction Time : 0

Correct Marks : 5 Wrong Marks : 1

Question Key Details :

Key	Value
Comprehension	Comp3

Lee el texto y responde a las preguntas.

## La Navidad en España y otras celebraciones

En España las navidades son muy importantes. La primera fecha destacada es el 24 de diciembre por la noche; es el día de Nochebuena. Esa noche es muy especial porque la familia se reúne para cenar, cantar villancicos y disfrutar del tiempo junto. Los villancicos son las canciones que se cantan en Navidad. Es la noche en la que nace el niño Jesús, y el 25 de diciembre es el día de Navidad. Ese día la gente va a las iglesias y pasa tiempo con su familia.

El 28 de diciembre es el día de los inocentes. Este día las personas se gastan bromas, como por ejemplo, contar una mentira o pegar un monigote de papel en la espalda de la gente. Cuando gastamos la inocentada, le decimos ; Inocente, Inocente! Y todo el mundo se ríe.

El 31 de diciembre es la noche de Nochevieja, es una noche en la que los españoles mostramos todas nuestras supersticiones : para recibir el año usamos ropa interior roja porque trae buena suerte y comemos doce uvas cuando suenan las 12 campanadas que indican la entrada en año. Después de comer las uvas hay una gran fiesta, en la que se brinda con champán y se baila toda la noche. El día siguiente, 1 de enero, es el día de Año nuevo y todos descansamos de la fiesta de la noche anterior.

La última fiesta que celebramos es el Día de Reyes, el 6 de enero. Es el día en el que los tres Reyes Magos de Oriente traen regalos a las casas, pero solo a quien se ha portado bien, quien se porta mal solo recibe carbón. Siempre pasan por las calles la noche del 5 de enero en la cabalgata de Reyes, lanzando caramelos a los niños. También comemos el roscón de reyes, que es un dulce en forma de roscón, relleno de crema y que tiene una corona de cartón. Este dulce trae dentro una judía (la persona que la encuentra tiene que pagar el roscón) y también una sorpresa, una figurita, quien la encuentra, es el rey de la reunión y tiene derecho a ponerse la corona del roscón.

¿ Qué es el roscón de reyes ?

- (1) Es una fruta
- (2) Es una broma
- (3) Es un dulce
- (4) Es un festival

Options :

485584149601. 1

485584149602. 2

485584149603. 3

485584149604. 4

Sub-Section Number :

4

Sub-Section Id :

4855842785

Question Shuffling Allowed :

Yes

Is Section Default? :

null

Question Number : 22 Question Id : 48558437402 Question Type : MCQ Option Shuffling : No Is Question Mandatory : No Calculator : None Response Time : N.A Think Time : N.A Minimum Instruction Time : 0

Correct Marks : 5 Wrong Marks : 1

Question Key Details :

Key	Value
Comprehension	MCQ

Arregla las palabras para formar una frase.

- (A) que viene
- (B) ellos estudiarán
- (C) mucho
- (D) español
- (E) la semana

Choose the **correct** answer from the options given below :

- (1) (A), (C), (B), (D), (E)
- (2) (D), (B), (C), (A), (E)
- (3) (B), (E), (A), (D), (C)
- (4) (E), (A), (B), (D), (C)

**Options :**

- 485584149605. 1
- 485584149606. 2
- 485584149607. 3
- 485584149608. 4

**Question Number : 23 Question Id : 48558437403 Question Type : MCQ Option Shuffling : No Is Question Mandatory : No Calculator : None Response Time : N.A Think Time : N.A Minimum Instruction Time : 0**

**Correct Marks : 5 Wrong Marks : 1**

**Question Key Details :**

Key	Value
Comprehension	MCQ

Arregla las palabras para formar una frase.

- (A) fueron al
- (B) anteayer
- (C) museo con
- (D) sus amigos
- (E) mis primos

Choose the **correct** answer from the options given below :

- (1) (A), (E), (D), (C), (B)
- (2) (E), (D), (B), (A), (C)
- (3) (B), (E), (A), (C), (D)
- (4) (A), (B), (C), (D), (E)

**Options :**

- 485584149609. 1
- 485584149610. 2
- 485584149611. 3
- 485584149612. 4

**Question Number : 24 Question Id : 48558437404 Question Type : MCQ Option Shuffling : No Is Question Mandatory : No Calculator : None Response Time : N.A Think Time : N.A Minimum Instruction Time : 0**

**Correct Marks : 5 Wrong Marks : 1**

**Question Key Details :**

Key	Value
Comprehension	MCQ

Ordena las palabras para formar una frase.

- (A) equipo de India
- (B) nosotros esperamos
- (C) copa mundial de fútbol
- (D) gane la
- (E) que el

Choose the correct answer from the options given below :

- (1) (A), (B), (C), (D), (E)
- (2) (D), (B), (A), (C), (E)
- (3) (E), (B), (A), (D), (C)
- (4) (B), (E), (A), (D), (C)

Options :

- 485584149613. 1
- 485584149614. 2
- 485584149615. 3
- 485584149616. 4

Question Number : 25 Question Id : 48558437405 Question Type : MCQ Option Shuffling : No Is Question Mandatory : No Calculator : None Response Time : N.A Think Time : N.A Minimum Instruction Time : 0

Correct Marks : 5 Wrong Marks : 1

Question Key Details :

Key	Value
Comprehension	MCQ

Ordena las palabras para formar una frase.

- (A) y yo
- (B) mis amigos
- (C) en bicicleta
- (D) damos una vuelta
- (E) mañana por la mañana

Choose the correct answer from the options given below :

- (1) (E), (A), (B), (C), (D)
- (2) (A), (B), (C), (D), (E)
- (3) (B), (C), (D), (A), (E)
- (4) (B), (A), (D), (C), (E)

Options :

- 485584149617. 1
- 485584149618. 2
- 485584149619. 3
- 485584149620. 4

Question Number : 26 Question Id : 48558437406 Question Type : MCQ Option Shuffling : No Is Question Mandatory : No Calculator : None Response Time : N.A Think Time : N.A Minimum Instruction Time : 0

Correct Marks : 5 Wrong Marks : 1

Question Key Details :

Key	Value
Comprehension	MCQ



Ordena las palabras para formar una frase.

- (A) de Alejandro
- (B) la semana
- (C) tiene los exámenes
- (D) que viene
- (E) el hermano

Choose the **correct** answer from the options given below :

- (1) (A), (B), (D), (C), (E)
- (2) (D), (A), (B), (C), (E)
- (3) (A), (B), (C), (D), (E)
- (4) (E), (A), (C), (B), (D)

**Options :**

- 485584149621. 1
- 485584149622. 2
- 485584149623. 3
- 485584149624. 4

**Question Number : 27 Question Id : 48558437407 Question Type : MCQ Option Shuffling : No Is Question Mandatory : No Calculator : None Response Time : N.A Think Time : N.A Minimum Instruction Time : 0**

**Correct Marks : 5 Wrong Marks : 1**

**Question Key Details :**

Key	Value
Comprehension	MCQ

Ordena las palabras para formar una frase.

- (A) En España
- (B) unas tres horas
- (C) la mayoría de los comercios
- (D) al mediodía
- (E) pequeños cierran durante

Choose the **correct** answer from the options given below :

- (1) (A), (C), (E), (B), (D)
- (2) (A), (B), (C), (D), (E)
- (3) (A), (D), (C), (B), (E)
- (4) (A), (E), (B), (C), (D)

**Options :**

- 485584149625. 1
- 485584149626. 2
- 485584149627. 3
- 485584149628. 4

**Question Number : 28 Question Id : 48558437408 Question Type : MCQ Option Shuffling : No Is Question Mandatory : No Calculator : None Response Time : N.A Think Time : N.A Minimum Instruction Time : 0**

**Correct Marks : 5 Wrong Marks : 1**

**Question Key Details :**

Key	Value
Comprehension	MCQ

Ordena las palabras para formar una frase.

- (A) ayuda a mantener
- (B) el cocinero
- (C) la cocina mediterránea
- (D) una dieta equilibrada
- (E) piensa que

Choose the **correct** answer from the options given below :

- (1) (A), (B), (C), (D), (E)
- (2) (B), (A), (D), (C), (E)
- (3) (B), (D), (C), (E), (A)
- (4) (B), (E), (C), (A), (D)

**Options :**

- 485584149629. 1
- 485584149630. 2
- 485584149631. 3
- 485584149632. 4

**Question Number : 29 Question Id : 48558437409 Question Type : MCQ Option Shuffling : No Is Question Mandatory : No Calculator : None Response Time : N.A Think Time : N.A Minimum Instruction Time : 0**

**Correct Marks : 5 Wrong Marks : 1**

**Question Key Details :**

Key	Value
Comprehension	MCQ

Ordena las palabras para formar una frase.

- (A) nunca es fácil
- (B) en mi opinión
- (C) es bastante difícil
- (D) la vida en México
- (E) pero la vida

Choose the **correct** answer from the options given below :

- (1) (B), (C), (A), (D), (E)
- (2) (B), (D), (C), (E), (A)
- (3) (C), (B), (D), (A), (E)
- (4) (A), (B), (C), (D), (E)

**Options :**

- 485584149633. 1
- 485584149634. 2
- 485584149635. 3
- 485584149636. 4

**Question Number : 30 Question Id : 48558437410 Question Type : MCQ Option Shuffling : No Is Question Mandatory : No Calculator : None Response Time : N.A Think Time : N.A Minimum Instruction Time : 0**

**Correct Marks : 5 Wrong Marks : 1**

**Question Key Details :**

Key	Value
Comprehension	MCQ

Match List - I with List - II.

**List - I**

- (A) Me gusta mucho aprender
- (B) Todos los días las clases
- (C) Son las
- (D) No me gusta

**List - II**

- (I) diez y media.
- (II) hacer exámenes.
- (III) canciones en inglés.
- (IV) empiezas a las ocho.

Choose the **correct** answer from the options given below :

- (1) (A)-(III), (B)-(II), (C)-(IV), (D)-(I)
- (2) (A)-(II), (B)-(III), (C)-(I), (D)-(IV)
- (3) (A)-(III), (B)-(IV), (C)-(I), (D)-(II)
- (4) (A)-(I), (B)-(II), (C)-(III), (D)-(IV)

**Options :**

- 485584149637. 1
- 485584149638. 2
- 485584149639. 3
- 485584149640. 4

**Question Number : 31 Question Id : 48558437411 Question Type : MCQ Option Shuffling : No Is Question Mandatory : No Calculator : None Response Time : N.A Think Time : N.A Minimum Instruction Time : 0**

**Correct Marks : 5 Wrong Marks : 1**

**Question Key Details :**

Key	Value
Comprehension	MCQ

Match List - I with List - II.

**List - I**

- (A) Pasárselo bien
- (B) Llevarse bien/mal
- (C) Costar mucho/poco
- (D) Faltar al respeto

**List - II**

- (I) Tener buena o mala relación con al guien
- (II) Ser maleducado con alguien
- (III) Divertirse
- (IV) Hacer algo con esfuerzo o dificultad

Choose the **correct** answer from the options given below :

- (1) (A)-(I), (B)-(IV), (C)-(III), (D)-(III)
- (2) (A)-(III), (B)-(I), (C)-(IV), (D)-(II)
- (3) (A)-(II), (B)-(III), (C)-(I), (D)-(IV)
- (4) (A)-(I), (B)-(III), (C)-(II), (D)-(IV)

**Options :**

- 485584149641. 1
- 485584149642. 2
- 485584149643. 3
- 485584149644. 4

**Question Number : 32 Question Id : 48558437412 Question Type : MCQ Option Shuffling : No Is Question Mandatory : No Calculator : None Response Time : N.A Think Time : N.A Minimum Instruction Time : 0**

**Correct Marks : 5 Wrong Marks : 1**

**Question Key Details :**

Key	Value
Comprehension	MCQ

Match List - I with List - II.

**List - I**

- (A) ¿ Qué Desayunas ?
- (B) ¿ Qué haces los fines de semana ?
- (C) ¿ Cuándo estudias ?
- (D) ¿ A qué hora te levantas ?

**List - II**

- (I) Normalmente un cafe, un zumo y tostadas
- (II) Voy al cine y como con amigos
- (III) A las siete de la mañana
- (IV) Estudio a las nueve en la escuela

Choose the **correct** answer from the options given below :

- (1) (A)-(I), (B)-(II), (C)-(IV), (D)-(III)
- (2) (A)-(III), (B)-(II), (C)-(I), (D)-(IV)
- (3) (A)-(II), (B)-(I), (C)-(III), (D)-(IV)
- (4) (A)-(IV), (B)-(III), (C)-(II), (D)-(I)

**Options :**

- 485584149645. 1
- 485584149646. 2
- 485584149647. 3
- 485584149648. 4

Question Number : 33 Question Id : 48558437413 Question Type : MCQ Option Shuffling : No Is Question Mandatory : No Calculator : None Response Time : N.A Think Time : N.A Minimum Instruction Time : 0

Correct Marks : 5 Wrong Marks : 1

**Question Key Details :**

Key	Value
Comprehension	MCQ

Match List - I with List - II.

**List - I**

- (A) Hacer
- (B) Jugar
- (C) Practicar
- (D) Cambiar

**List - II**

- (I) Natación
- (II) La rutina
- (III) Atletismo
- (IV) Baloncesto

Choose the **correct** answer from the options given below :

- (1) (A)-(II), (B)-(I), (C)-(IV), (D)-(III)
- (2) (A)-(III), (B)-(IV), (C)-(I), (D)-(II)
- (3) (A)-(I), (B)-(II), (C)-(III), (D)-(IV)
- (4) (A)-(IV), (B)-(III), (C)-(I), (D)-(II)

**Options :**

- 485584149649. 1
- 485584149650. 2
- 485584149651. 3
- 485584149652. 4

Question Number : 34 Question Id : 48558437414 Question Type : MCQ Option Shuffling : No Is Question Mandatory : No Calculator : None Response Time : N.A Think Time : N.A Minimum Instruction Time : 0

Correct Marks : 5 Wrong Marks : 1

**Question Key Details :**

Key	Value
Comprehension	MCQ

Match List - I with List - II.

- | List - I   | List - II       |
|------------|-----------------|
| (A) Tener  | (I) Bailar      |
| (B) Llevar | (II) Libros     |
| (C) Querer | (III) éxito     |
| (D) Hacer  | (IV) mal tiempo |

Choose the **correct** answer from the options given below :

- (1) (A)-(IV), (B)-(III), (C)-(I), (D)-(II)
- (2) (A)-(IV), (B)-(I), (C)-(II), (D)-(III)
- (3) (A)-(III), (B)-(II), (C)-(I), (D)-(IV)
- (4) (A)-(II), (B)-(I), (C)-(III), (D)-(IV)

**Options :**

485584149653. 1
485584149654. 2
485584149655. 3
485584149656. 4

Question Number : 35 Question Id : 48558437415 Question Type : MCQ Option Shuffling : No Is Question Mandatory : No Calculator : None Response Time : N.A Think Time : N.A Minimum Instruction Time : 0

Correct Marks : 5 Wrong Marks : 1

**Question Key Details :**

Key	Value
Comprehension	MCQ

Match List - I with List - II.

- | List - I                         | List - II                            |
|----------------------------------|--------------------------------------|
| (A) Yo estoy preocupado          | (I) su pasaporte.                    |
| (B) El turista está buscando     | (II) porque mi hermana no está bien. |
| (C) Mi padre está arreglando     | (III) esta lámpara.                  |
| (D) Mis amigos están escribiendo | (IV) un cuento de suspenso.          |

Choose the **correct** answer from the options given below :

- (1) (A)-(IV), (B)-(III), (C)-(I), (D)-(II)
- (2) (A)-(III), (B)-(IV), (C)-(I), (D)-(II)
- (3) (A)-(II), (B)-(I), (C)-(III), (D)-(IV)
- (4) (A)-(I), (B)-(II), (C)-(IV), (D)-(III)

**Options :**

485584149657. 1
485584149658. 2
485584149659. 3
485584149660. 4

Question Number : 36 Question Id : 48558437416 Question Type : MCQ Option Shuffling : No Is Question Mandatory : No Calculator : None Response Time : N.A Think Time : N.A Minimum Instruction Time : 0

Correct Marks : 5 Wrong Marks : 1

**Question Key Details :**

Key	Value
Comprehension	MCQ

Match List - I with List - II.

- | List - I    | List - II       |
|-------------|-----------------|
| (A) dos     | (I) vigésimo    |
| (B) veinte  | (II) centésimo  |
| (C) sesenta | (III) segundo   |
| (D) cien    | (IV) sexagésimo |

Choose the correct answer from the options given below :

- (1) (A)-(III), (B)-(I), (C)-(IV), (D)-(II)
- (2) (A)-(I), (B)-(IV), (C)-(II), (D)-(III)
- (3) (A)-(IV), (B)-(II), (C)-(I), (D)-(III)
- (4) (A)-(II), (B)-(III), (C)-(IV), (D)-(I)

Options :

485584149661. 1
485584149662. 2
485584149663. 3
485584149664. 4

Question Number : 37 Question Id : 48558437417 Question Type : MCQ Option Shuffling : No Is Question Mandatory : No Calculator : None Response Time : N.A Think Time : N.A Minimum Instruction Time : 0

Correct Marks : 5 Wrong Marks : 1

Question Key Details :

Key	Value
Comprehension	MCQ

Completa con la preposición adecuada :

- Mis amigos y yo queremos ir al teatro \_\_\_\_\_ ver una obra \_\_\_\_\_ la noche.

- (1) Para, Por
- (2) De, por
- (3) Por, Para
- (4) Con, para

Options :

485584149665. 1
485584149666. 2
485584149667. 3
485584149668. 4

Question Number : 38 Question Id : 48558437418 Question Type : MCQ Option Shuffling : No Is Question Mandatory : No Calculator : None Response Time : N.A Think Time : N.A Minimum Instruction Time : 0

Correct Marks : 5 Wrong Marks : 1

Question Key Details :

Key	Value
Comprehension	MCQ

Elige la opción correcta :

- Mi padre es \_\_\_\_\_ alto \_\_\_\_\_ mi abuelo.

- (1) menos, como
- (2) más, como
- (3) tan, como
- (4) tanto, como

Options :

485584149669. 1

485584149670. 2  
485584149671. 3  
485584149672. 4

**Question Number : 39 Question Id : 48558437419 Question Type : MCQ Option Shuffling : No Is Question Mandatory : No Calculator : None  
Response Time : N.A Think Time : N.A Minimum Instruction Time : 0**

**Correct Marks : 5 Wrong Marks : 1**

**Question Key Details :**

Key	Value
Comprehension	MCQ

Elige la opción correcta -

\_\_\_\_\_ veces voy al parque con mi hermano pequeño después de estudiar.

- (1) Muy
- (2) Mucha
- (3) Muchas
- (4) Pocos

**Options :**

485584149673. 1  
485584149674. 2  
485584149675. 3  
485584149676. 4

**Question Number : 40 Question Id : 48558437420 Question Type : MCQ Option Shuffling : No Is Question Mandatory : No Calculator : None  
Response Time : N.A Think Time : N.A Minimum Instruction Time : 0**

**Correct Marks : 5 Wrong Marks : 1**

**Question Key Details :**

Key	Value
Comprehension	MCQ

Elige la opción correcta -

A nosotros no \_\_\_\_\_ parece muy difícil este tema de gramática.

- (1) me
- (2) le
- (3) lo
- (4) nos

**Options :**

485584149677. 1  
485584149678. 2  
485584149679. 3  
485584149680. 4

**Question Number : 41 Question Id : 48558437421 Question Type : MCQ Option Shuffling : No Is Question Mandatory : No Calculator : None  
Response Time : N.A Think Time : N.A Minimum Instruction Time : 0**

**Correct Marks : 5 Wrong Marks : 1**

**Question Key Details :**

Key	Value
Comprehension	MCQ

Elige la opción corrects :

¿ Cuántas \_\_\_\_\_ al día comes arroz, pasta, pan o cereales ?

- (1) hora
- (2) veces
- (3) vez
- (4) tiempo

**Options :**

485584149681. 1  
485584149682. 2  
485584149683. 3  
485584149684. 4

**Question Number : 42 Question Id : 48558437422 Question Type : MCQ Option Shuffling : No Is Question Mandatory : No Calculator : None Response Time : N.A Think Time : N.A Minimum Instruction Time : 0**

**Correct Marks : 5 Wrong Marks : 1**

**Question Key Details :**

Key	Value
Comprehension	MCQ

Hay que \_\_\_\_\_ muchas frutas y verduras para tener buena salud :

- (1) como
- (2) comes
- (3) comiendo
- (4) comer

**Options :**

485584149685. 1  
485584149686. 2  
485584149687. 3  
485584149688. 4

**Question Number : 43 Question Id : 48558437423 Question Type : MCQ Option Shuffling : No Is Question Mandatory : No Calculator : None Response Time : N.A Think Time : N.A Minimum Instruction Time : 0**

**Correct Marks : 5 Wrong Marks : 1**

**Question Key Details :**

Key	Value
Comprehension	MCQ

Ambrosio y Luisa llevan casados treinta años. Nunca estañ de acuerdo, siempre dicen lo contrario de lo que dice el otro.

A : Cariño, siéntate ahí a la izquierda.

L : No, mejor me voy a sentar.

- (1) enfrente
- (2) al lado
- (3) a la derecha
- (4) cerca

**Options :**

485584149689. 1  
485584149690. 2  
485584149691. 3  
485584149692. 4



Question Number : 44 Question Id : 48558437424 Question Type : MCQ Option Shuffling : No Is Question Mandatory : No Calculator : None Response Time : N.A Think Time : N.A Minimum Instruction Time : 0

Correct Marks : 5 Wrong Marks : 1

Question Key Details :

Key	Value
Comprehension	MCQ

- ¿ \_\_\_\_\_ la encontró usted ?
- Ayer por la noche, después de cenar.

- (1) cuándo
- (2) qué
- (3) cuáles
- (4) cuál

Options :

- 485584149693. 1
- 485584149694. 2
- 485584149695. 3
- 485584149696. 4

Question Number : 45 Question Id : 48558437425 Question Type : MCQ Option Shuffling : No Is Question Mandatory : No Calculator : None Response Time : N.A Think Time : N.A Minimum Instruction Time : 0

Correct Marks : 5 Wrong Marks : 1

Question Key Details :

Key	Value
Comprehension	MCQ

El antónimo de "simpático" es :

- (1) afable
- (2) agradable
- (3) adusto
- (4) amable

Options :

- 485584149697. 1
- 485584149698. 2
- 485584149699. 3
- 485584149700. 4

Question Number : 46 Question Id : 48558437426 Question Type : MCQ Option Shuffling : No Is Question Mandatory : No Calculator : None Response Time : N.A Think Time : N.A Minimum Instruction Time : 0

Correct Marks : 5 Wrong Marks : 1

Question Key Details :

Key	Value
Comprehension	MCQ

El sinónimo de "vegetales" es \_\_\_\_\_.

- (1) comercios
- (2) verduras
- (3) pasteles
- (4) embutidos

Options :

- 485584149701. 1
- 485584149702. 2
- 485584149703. 3
- 485584149704. 4

Question Number : 47 Question Id : 48558437427 Question Type : MCQ Option Shuffling : No Is Question Mandatory : No Calculator : None  
Response Time : N.A Think Time : N.A Minimum Instruction Time : 0

Correct Marks : 5 Wrong Marks : 1

Question Key Details :

Key	Value
Comprehension	MCQ

El sinónimo del verbo "Almacenar" es \_\_\_\_\_.

- (1) Guardar
- (2) Utilizar
- (3) Suplir
- (4) Sustituir

Options :

485584149705. 1

485584149706. 2

485584149707. 3

485584149708. 4

Question Number : 48 Question Id : 48558437428 Question Type : MCQ Option Shuffling : No Is Question Mandatory : No Calculator : None  
Response Time : N.A Think Time : N.A Minimum Instruction Time : 0

Correct Marks : 5 Wrong Marks : 1

Question Key Details :

Key	Value
Comprehension	MCQ

El sinónimo de "comenzar" es \_\_\_\_\_.

- (1) Entender
- (2) Empezar
- (3) Pulgar
- (4) Empujar

Options :

485584149709. 1

485584149710. 2

485584149711. 3

485584149712. 4

Question Number : 49 Question Id : 48558437429 Question Type : MCQ Option Shuffling : No Is Question Mandatory : No Calculator : None  
Response Time : N.A Think Time : N.A Minimum Instruction Time : 0

Correct Marks : 5 Wrong Marks : 1

Question Key Details :

Key	Value
Comprehension	MCQ

Los sinónimos de "copiar" son :

- (A) Coleccionar
- (B) Imitar
- (C) Destacar
- (D) Leer
- (E) Fotocopiar

Choose the correct answer from the options given below :

- (1) (A) and (C) Only
- (2) (B) and (E) Only
- (3) (C) and (D) Only
- (4) (B) and (D) Only

Options :

- 485584149713. 1
- 485584149714. 2
- 485584149715. 3
- 485584149716. 4

Question Number : 50 Question Id : 48558437430 Question Type : MCQ Option Shuffling : No Is Question Mandatory : No Calculator : None Response Time : N.A Think Time : N.A Minimum Instruction Time : 0

Correct Marks : 5 Wrong Marks : 1

Question Key Details :

Key	Value
Comprehension	MCQ

Elige un sinónimo de "Rápido" :

- (1) Veloz
- (2) Lento
- (3) Corre
- (4) Nieva

Options :

- 485584149717. 1
- 485584149718. 2
- 485584149719. 3
- 485584149720. 4

### Accountancy

Group Number :	2
Group Id :	485584851
Group Maximum Duration :	60
Group Minimum Duration :	60
Show Attended Group? :	No
Edit Attended Group? :	No
Break time :	0
Group Marks :	200
Is this Group for Examiner? :	No
Examiner permission :	Cant View
Show Progress Bar? :	No

### Accountancy

Section Id :	485584979
Section Number :	1

Section type : Online  
Mandatory or Optional : Mandatory  
Number of Questions : 50  
Number of Questions to be attempted : 40  
Section Marks : 200  
Enable Mark as Answered Mark for Review and Clear Response : Yes  
Maximum Instruction Time : 0  
Sub-Section Number : 1  
Sub-Section Id : 4855842786  
Question Shuffling Allowed : Yes  
Is Section Default? : null

Question Number : 51 Question Id : 48558436796 Question Type : MCQ Option Shuffling : No Is Question Mandatory : No Calculator : None  
Response Time : N.A Think Time : N.A Minimum Instruction Time : 0

Correct Marks : 5 Wrong Marks : 1

Question Key Details :

Key	Value
Comprehension	MCQ

The term "record" as applied to database table means:

1. Vertical Column of the table
2. Size of the the table
3. Horizontal row of the table
4. Name of the table

Options :

485584147181. 1
485584147182. 2
485584147183. 3
485584147184. 4

Question Number : 51 Question Id : 48558436796 Question Type : MCQ Option Shuffling : No Is Question Mandatory : No Calculator : None  
Response Time : N.A Think Time : N.A Minimum Instruction Time : 0

Correct Marks : 5 Wrong Marks : 1

Question Key Details :

Key	Value
Comprehension	MCQ

डाटाबेस सारणी के लिये "record" शब्द का अर्थ:

1. सारणी का लम्बवत स्तम्भ
2. सारणी का आकार
3. सारणी की क्षैतिज पंक्ति
4. सारणी का नाम

Options :

485584147181. 1
485584147182. 2
485584147183. 3
485584147184. 4

Question Number : 52 Question Id : 48558436797 Question Type : MCQ Option Shuffling : No Is Question Mandatory : No Calculator : None  
Response Time : N.A Think Time : N.A Minimum Instruction Time : 0

Correct Marks : 5 Wrong Marks : 1

Question Key Details :

Key	Value
-----	-------

Join line in the context of Access Table means

1. Graphical representation of relationship between tables.
2. Lines bonding the data with table.
3. Line Connecting two fields of a table
4. Line connecting two record of the table.

**Options :**

485584147185. 1  
485584147186. 2  
485584147187. 3  
485584147188. 4

**Question Number : 52 Question Id : 48558436797 Question Type : MCQ Option Shuffling : No Is Question Mandatory : No Calculator : None Response Time : N.A Think Time : N.A Minimum Instruction Time : 0**

**Correct Marks : 5 Wrong Marks : 1**

**Question Key Details :**

Key	Value
Comprehension	MCQ

एक्सेस सारणी के संदर्भ में जोड़ रेखा (join line) का अर्थ:

1. सारणियों के मध्य संबंध का स्पष्ट तथा विस्तार के साथ प्रस्तुतीकरण
2. सारणी के साथ डेटा रेखा बांधन (Lines bonding)
3. सारणी के दो क्षेत्रों (Field) रेखा संयोजन (Line Connecting)
4. सारणी के दो अभिलेख (Record) की रेखा संयोजक

**Options :**

485584147185. 1  
485584147186. 2  
485584147187. 3  
485584147188. 4

**Question Number : 53 Question Id : 48558436798 Question Type : MCQ Option Shuffling : No Is Question Mandatory : No Calculator : None Response Time : N.A Think Time : N.A Minimum Instruction Time : 0**

**Correct Marks : 5 Wrong Marks : 1**

**Question Key Details :**

Key	Value
Comprehension	MCQ

Once we have created a chart we may change

1. Only by going back through the ribbon
2. Everything about a change
3. The data series pattern only
4. The formatting for text like titles and data labels

**Options :**

485584147189. 1  
485584147190. 2  
485584147191. 3  
485584147192. 4

Question Number : 53 Question Id : 48558436798 Question Type : MCQ Option Shuffling : No Is Question Mandatory : No Calculator : None  
Response Time : N.A Think Time : N.A Minimum Instruction Time : 0

Correct Marks : 5 Wrong Marks : 1

Question Key Details :

Key	Value
Comprehension	MCQ

एक बार चार्ट सृजित करने के पश्चात् हम परिवर्तन कर सकते है -

1. केवल रिब्रन के द्वारा पीछे जाकर
2. परिवर्तन के बारे सबकुछ
3. केवल डाटा श्रृंखला नमूना (series pattern)
4. टेक्स्ट हेतु फॉर्मेटिंग जैसे शीर्षक (titles) तथा डाटा लेबल

Options :

485584147189. 1

485584147190. 2

485584147191. 3

485584147192. 4

Question Number : 54 Question Id : 48558436799 Question Type : MCQ Option Shuffling : No Is Question Mandatory : No Calculator : None  
Response Time : N.A Think Time : N.A Minimum Instruction Time : 0

Correct Marks : 5 Wrong Marks : 1

Question Key Details :

Key	Value
Comprehension	MCQ

Pie chart do not have more than \_\_\_\_\_ categories.

1. 10
2. 25
3. 7
4. 3

Options :

485584147193. 1

485584147194. 2

485584147195. 3

485584147196. 4

Question Number : 54 Question Id : 48558436799 Question Type : MCQ Option Shuffling : No Is Question Mandatory : No Calculator : None  
Response Time : N.A Think Time : N.A Minimum Instruction Time : 0

Correct Marks : 5 Wrong Marks : 1

Question Key Details :

Key	Value
Comprehension	MCQ

वृत्तरेख मे \_\_\_\_\_ से अधिक श्रेणियां नहीं होती।

1. 10
2. 25
3. 7
4. 3

**Options :**

485584147193. 1  
485584147194. 2  
485584147195. 3  
485584147196. 4

**Question Number : 55 Question Id : 48558436800 Question Type : MCQ Option Shuffling : No Is Question Mandatory : No Calculator : None Response Time : N.A Think Time : N.A Minimum Instruction Time : 0**

**Correct Marks : 5 Wrong Marks : 1**

**Question Key Details :**

Key	Value
Comprehension	MCQ

Receipt and Payment account for the year ended 31st March 2022 shows:

Payment for Stationery ₹23,000.

Additional information

Detail	1.4.2021 ₹	31.03.2022 ₹
Stock of Stationery	4,000	3,000
Creditor for Stationery	9,000	2,500

The amount of Stationery consumed during 2021-22 is:

1. ₹23,000
2. ₹17,500
3. ₹20,500
4. ₹16,500

**Options :**

485584147197. 1  
485584147198. 2  
485584147199. 3  
485584147200. 4

**Question Number : 55 Question Id : 48558436800 Question Type : MCQ Option Shuffling : No Is Question Mandatory : No Calculator : None Response Time : N.A Think Time : N.A Minimum Instruction Time : 0**

**Correct Marks : 5 Wrong Marks : 1**

**Question Key Details :**

Key	Value
Comprehension	MCQ

31 मार्च 2022 को समाप्त होने वाले वर्ष के लिये प्राप्ति तथा भुगतान खता दर्शाता है:

लेखन सामग्री हेतु भुगतान ₹23,000.

अतिरिक्त सूचना

विवरण	1.4.2021 ₹	31.03.2022 ₹
लेखन सामग्री स्केच	4,000	3,000
लेखन सामग्री हेतु लेनदार	9,000	2,500

2021-22 के दौरान उपभोग हुई लेखन सामग्री की राशि है:

1. ₹23,000
2. ₹17,500
3. ₹20,500
4. ₹16,500

**Options :**

485584147197. 1  
485584147198. 2  
485584147199. 3  
485584147200. 4

**Question Number : 56 Question Id : 48558436801 Question Type : MCQ Option Shuffling : No Is Question Mandatory : No Calculator : None Response Time : N.A Think Time : N.A Minimum Instruction Time : 0**

**Correct Marks : 5 Wrong Marks : 1**

**Question Key Details :**

Key	Value
Comprehension	MCQ

The amount of the prize fund to be shown in the Balance Sheet from the following information is:

Particulars	Debit ₹	Credit ₹
Prize Fund		80,000
Prize Fund Investment	80,000	
Income from Prize fund		8,000
Prizes awarded	8,000	

1. ₹82,000
2. ₹80,000
3. ₹88,000
4. ₹74,000

**Options :**

485584147201. 1  
485584147202. 2  
485584147203. 3  
485584147204. 4

**Question Number : 56 Question Id : 48558436801 Question Type : MCQ Option Shuffling : No Is Question Mandatory : No Calculator : None Response Time : N.A Think Time : N.A Minimum Instruction Time : 0**

**Correct Marks : 5 Wrong Marks : 1**

**Question Key Details :**

Key	Value
-----	-------



निम्नलिखित सूचनाओं से तुलन-पत्र में दर्शायी जाने वाली पुरस्कार निधि की राशि है:

विवरण	ऋणी ₹	धनी ₹
पुरस्कार निधि		80,000
पुरस्कार निधि निवेश	80,000	
पुरस्कार निधि से आय		8,000
पुरस्कार विवरण	6,000	

1. ₹82,000
2. ₹80,000
3. ₹88,000
4. ₹74,000

**Options :**

485584147201. 1  
485584147202. 2  
485584147203. 3  
485584147204. 4

**Question Number : 57 Question Id : 48558436802 Question Type : MCQ Option Shuffling : No Is Question Mandatory : No Calculator : None Response Time : N.A Think Time : N.A Minimum Instruction Time : 0**

**Correct Marks : 5 Wrong Marks : 1**

**Question Key Details :**

Key	Value
Comprehension	MCQ

In case of Not-for-Profit Organisation advertisement expense is

1. Capital Expenditure
2. Revenue Expenditure
3. Deferred Revenue Expenses
4. Revenue Receipt

**Options :**

485584147205. 1  
485584147206. 2  
485584147207. 3  
485584147208. 4

**Question Number : 57 Question Id : 48558436802 Question Type : MCQ Option Shuffling : No Is Question Mandatory : No Calculator : None Response Time : N.A Think Time : N.A Minimum Instruction Time : 0**

**Correct Marks : 5 Wrong Marks : 1**

**Question Key Details :**

Key	Value
Comprehension	MCQ

अलाभकारी संस्था की दशा में विज्ञापन व्यय है .

1. पूँजीगत व्यय
2. आयगत व्यय
3. अस्थगित आयगत व्यय
4. आयगत प्राप्ति

**Options :**

485584147205. 1  
485584147206. 2  
485584147207. 3  
485584147208. 4

**Question Number : 58 Question Id : 48558436803 Question Type : MCQ Option Shuffling : No Is Question Mandatory : No Calculator : None Response Time : N.A Think Time : N.A Minimum Instruction Time : 0**

**Correct Marks : 5 Wrong Marks : 1**

**Question Key Details :**

Key	Value
Comprehension	MCQ

Radha, Shyam and Gopal are partners sharing profit equally. On Gopal's Retirement, his share is acquired by Radha and Shyam in the Ratio 3:2. The new Profit sharing Ratio between Radha and Shyam is:

1. 8:7
2. 4:5
3. 3:2
4. 2:3

**Options :**

485584147209. 1  
485584147210. 2  
485584147211. 3  
485584147212. 4

**Question Number : 58 Question Id : 48558436803 Question Type : MCQ Option Shuffling : No Is Question Mandatory : No Calculator : None Response Time : N.A Think Time : N.A Minimum Instruction Time : 0**

**Correct Marks : 5 Wrong Marks : 1**

**Question Key Details :**

Key	Value
Comprehension	MCQ

राधा, श्याम तथा गोपाल साझेदार हैं जो लाभ का विभाजन समान अनुपात में करते हैं. गोपाल की सेवानिवृत्ति पर उसका भाग राधा तथा श्याम द्वारा 3:2 के अनुपात में अधिगृहित किया गया। राधा तथा श्याम के मध्य नया लाभ विभाजन अनुपात है -

1. 8:7
2. 4:5
3. 3:2
4. 2:3

**Options :**

485584147209. 1  
485584147210. 2

485584147211. 3  
485584147212. 4

**Question Number : 59 Question Id : 48558436804 Question Type : MCQ Option Shuffling : No Is Question Mandatory : No Calculator : None  
Response Time : N.A Think Time : N.A Minimum Instruction Time : 0  
Correct Marks : 5 Wrong Marks : 1**

**Question Key Details :**

Key	Value
Comprehension	MCQ

Identify out of the following that is not a method of Valuation of goodwill.

1. Average Profit Method
2. Super Profit Method
3. Firm Goodwill Valuation Method
4. Capitalisation Method

**Options :**

485584147213. 1  
485584147214. 2  
485584147215. 3  
485584147216. 4

**Question Number : 59 Question Id : 48558436804 Question Type : MCQ Option Shuffling : No Is Question Mandatory : No Calculator : None  
Response Time : N.A Think Time : N.A Minimum Instruction Time : 0  
Correct Marks : 5 Wrong Marks : 1**

**Question Key Details :**

Key	Value
Comprehension	MCQ

निम्नलिखित में से उस विधि पहचानिये जो ख्याति मूल्यांकन की विधि नहीं है?

1. औसत लाभ विधि
2. अधिलाभ विधि
3. फर्म ख्याति मूल्यांकन विधि
4. पूँजीकरण विधि

**Options :**

485584147213. 1  
485584147214. 2  
485584147215. 3  
485584147216. 4

**Question Number : 60 Question Id : 48558436805 Question Type : MCQ Option Shuffling : No Is Question Mandatory : No Calculator : None  
Response Time : N.A Think Time : N.A Minimum Instruction Time : 0  
Correct Marks : 5 Wrong Marks : 1**

**Question Key Details :**

Key	Value
Comprehension	MCQ

A and B are partners sharing Profit in the ratio of 3:2. Their capitals were ₹80,000 and ₹50,000 respectively. They admitted 'S' as partner for  $\frac{1}{5}$  th share profit. He brought ₹60,000 as his capital. Calculate the value of goodwill of firm.

1. ₹1,00,000
2. ₹1,10,000
3. ₹1,20,000
4. ₹1,30,000

**Options :**

485584147217. 1  
485584147218. 2  
485584147219. 3  
485584147220. 4

**Question Number : 60 Question Id : 48558436805 Question Type : MCQ Option Shuffling : No Is Question Mandatory : No Calculator : None Response Time : N.A Think Time : N.A Minimum Instruction Time : 0**

**Correct Marks : 5 Wrong Marks : 1**

**Question Key Details :**

Key	Value
Comprehension	MCQ

A तथा B साझेदार है जो लाभ का विभाजन 3:2 के अनुपात में करते है. उनकी पूँजियाँ क्रमशः ₹80,000 तथा ₹50,000 थी। उन्होंने 'S' को साझेदार के रूप में लाभ में  $\frac{1}{5}$  भाग हेतु शामिल किया। वह ₹60,000 अपनी पूँजी के रूप में लाया, फर्म की ख्याति के मूल्य की गणना कीजिए.

1. ₹1,00,000
2. ₹1,10,000
3. ₹1,20,000
4. ₹1,30,000

**Options :**

485584147217. 1  
485584147218. 2  
485584147219. 3  
485584147220. 4

**Question Number : 61 Question Id : 48558436806 Question Type : MCQ Option Shuffling : No Is Question Mandatory : No Calculator : None Response Time : N.A Think Time : N.A Minimum Instruction Time : 0**

**Correct Marks : 5 Wrong Marks : 1**

**Question Key Details :**

Key	Value
Comprehension	MCQ

In case of issue of debentures, when business is taken over by the other company,

Amount of debentures issued is more than the Net Assets, the difference will be debited to:

1. Goodwill
2. Securities Premium
3. Capital Reserve
4. Profit and Loss A/c

**Options :**

485584147221. 1  
485584147222. 2  
485584147223. 3  
485584147224. 4

**Question Number : 61 Question Id : 48558436806 Question Type : MCQ Option Shuffling : No Is Question Mandatory : No Calculator : None Response Time : N.A Think Time : N.A Minimum Instruction Time : 0**

**Correct Marks : 5 Wrong Marks : 1**

**Question Key Details :**

Key	Value
Comprehension	MCQ

ऋणपत्र निर्गमन की दशा में, जब व्यवसाय अन्य कंपनी द्वारा ले लिया जाता है, निर्गमित ऋणपत्रों का मूल्य शुद्ध परिसंपत्तियों से अधिक है तो अंतर किसमें ऋणी होगा -

1. स्याति
2. प्रतिभूति प्रीमियम
3. पूंजीगत संचय
4. लाभ तथा हानि खाता

**Options :**

485584147221. 1  
485584147222. 2  
485584147223. 3  
485584147224. 4

**Question Number : 62 Question Id : 48558436807 Question Type : MCQ Option Shuffling : No Is Question Mandatory : No Calculator : None Response Time : N.A Think Time : N.A Minimum Instruction Time : 0**

**Correct Marks : 5 Wrong Marks : 1**

**Question Key Details :**

Key	Value
Comprehension	MCQ

The application money should be at least \_\_\_\_\_ of the face value of the share.

1. 50%
2. 25%
3. 5%
4. 10%

**Options :**

485584147225. 1  
485584147226. 2  
485584147227. 3

485584147228.4

Question Number : 62 Question Id : 48558436807 Question Type : MCQ Option Shuffling : No Is Question Mandatory : No Calculator : None  
Response Time : N.A Think Time : N.A Minimum Instruction Time : 0  
Correct Marks : 5 Wrong Marks : 1

Question Key Details :

Key	Value
Comprehension	MCQ

आवेदन राशि अंश के अंकित मूल्य का न्यूनतम \_\_\_\_\_ होना चाहिये।

1. 50%

2. 25%

3. 5%

4. 10%

Options :

485584147225.1

485584147226.2

485584147227.3

485584147228.4

Question Number : 63 Question Id : 48558436808 Question Type : MCQ Option Shuffling : No Is Question Mandatory : No Calculator : None  
Response Time : N.A Think Time : N.A Minimum Instruction Time : 0  
Correct Marks : 5 Wrong Marks : 1

Question Key Details :

Key	Value
Comprehension	MCQ

From the following, calculate Interest Coverage Ratio:

Net profit after tax: ₹7,00,000

15% Debentures : ₹1,00,00,000

Tax rate: 30%

1. 1.47 times

2. 1.67 times

3. 1.61 times

4. 0.47 times

Options :

485584147229.1

485584147230.2

485584147231.3

485584147232.4

Question Number : 63 Question Id : 48558436808 Question Type : MCQ Option Shuffling : No Is Question Mandatory : No Calculator : None  
Response Time : N.A Think Time : N.A Minimum Instruction Time : 0  
Correct Marks : 5 Wrong Marks : 1

Question Key Details :

Key	Value
Comprehension	MCQ

निम्नलिखित से ब्याज व्याप्ति अनुपात की गणना कीजिए:

कर पश्चात् निवल लाभ: ₹7,00,000

15% ऋणपत्र : ₹1,00,00,000

कर दर: 30%

1. 1.47 गुना

2. 1.67 गुना

3. 1.61 गुना

4. 0.47 गुना

**Options :**

485584147229. 1

485584147230. 2

485584147231. 3

485584147232. 4

**Question Number : 64 Question Id : 48558436809 Question Type : MCQ Option Shuffling : No Is Question Mandatory : No Calculator : None Response Time : N.A Think Time : N.A Minimum Instruction Time : 0**

**Correct Marks : 5 Wrong Marks : 1**

**Question Key Details :**

Key	Value
Comprehension	MCQ

Debt Equity ratio measures the relationship between long term debt and equity. Identify when debt equity ratio is considered ideal.

1. 1:1

2. 2:1

3. 1:2

4. 3:1

**Options :**

485584147233. 1

485584147234. 2

485584147235. 3

485584147236. 4

**Question Number : 64 Question Id : 48558436809 Question Type : MCQ Option Shuffling : No Is Question Mandatory : No Calculator : None Response Time : N.A Think Time : N.A Minimum Instruction Time : 0**

**Correct Marks : 5 Wrong Marks : 1**

**Question Key Details :**

Key	Value
Comprehension	MCQ

ऋण समता अनुपात दीर्घकालिक ऋण तथा समता के मध्य संबंध को मापता है. ऋण समता अनुपात को कब आदर्श माना जाता है पहचानिये .

1. 1:1

2. 2:1

3. 1:2

4. 3:1

**Options :**

485584147233. 1

485584147234. 2

485584147235. 3

485584147236. 4

**Question Number : 65 Question Id : 48558436810 Question Type : MCQ Option Shuffling : No Is Question Mandatory : No Calculator : None Response Time : N.A Think Time : N.A Minimum Instruction Time : 0**

**Correct Marks : 5 Wrong Marks : 1**

**Question Key Details :**

Key	Value
Comprehension	MCQ

Identify the type of ratio which is computed with one variable from statement of profit and loss and another variable from Balance sheet.

1. Balance Sheet Ratio

2. Composite Ratio

3. Statement of profit and loss Ratio

4. Current Ratio

**Options :**

485584147237. 1

485584147238. 2

485584147239. 3

485584147240. 4

**Question Number : 65 Question Id : 48558436810 Question Type : MCQ Option Shuffling : No Is Question Mandatory : No Calculator : None Response Time : N.A Think Time : N.A Minimum Instruction Time : 0**

**Correct Marks : 5 Wrong Marks : 1**

**Question Key Details :**

Key	Value
Comprehension	MCQ

उस अनुपात के प्रकार को पहचानिये जिसकी गणना एक चर लाभ तथा हानि विवरण से तथा अन्य दूसरा चर तुलन-पत्र से लेकर की जाती है .

1. तुलन पत्र अनुपात

2. मिश्रित अनुपात

3. लाभ तथा हानि विवरण अनुपात

4. चारू अनुपात

**Options :**

485584147237. 1

485584147238. 2



485584147239. 3  
485584147240. 4

**Question Number : 66 Question Id : 48558436811 Question Type : MCQ Option Shuffling : No Is Question Mandatory : No Calculator : None Response Time : N.A Think Time : N.A Minimum Instruction Time : 0**

**Correct Marks : 5 Wrong Marks : 1**

**Question Key Details :**

Key	Value
Comprehension	MCQ

Rajesh Limited issued 70,000 equity shares of ₹10 each to public. Company shared following records from its books of accounts:

Particulars	₹
70,000 equity shares of ₹10 each	7,00,000
Net profit after tax but before dividend	₹1,75,000
Market Price of share	₹13

Dividend declared @ 15%

Price earning Ratio will be:

1. 5.20 times
2. 0.6 times
3. 5.22 times
4. 12.52 times

**Options :**

485584147241. 1  
485584147242. 2  
485584147243. 3  
485584147244. 4

**Question Number : 66 Question Id : 48558436811 Question Type : MCQ Option Shuffling : No Is Question Mandatory : No Calculator : None Response Time : N.A Think Time : N.A Minimum Instruction Time : 0**

**Correct Marks : 5 Wrong Marks : 1**

**Question Key Details :**

Key	Value
Comprehension	MCQ

राजेश लिमिटेड ने ₹10 प्रत्येक वाले 70,000 समता अंश जनता को निर्गमित किये। कंपनी ने अपनी खाता पुस्तक से निम्नलिखित प्रलेख साझा किये:

विवरण	₹
70,000 समता अंश ₹10 प्रत्येक	7,00,000
कर प्रक्षत् लेकिन लाभोश पूर्व निवत लाभ	₹1,75,000
अंश का बाजार मूल्य	₹13

घोषित लाभोश @ 15%

मूल्य अर्जन अनुपात होगा:

1. 5.20 गुणा
2. 0.6 गुणा
3. 5.22 गुणा
4. 12.52 गुणा

**Options :**

485584147241. 1
485584147242. 2
485584147243. 3
485584147244. 4

**Question Number : 67 Question Id : 48558436812 Question Type : MCQ Option Shuffling : No Is Question Mandatory : No Calculator : None Response Time : N.A Think Time : N.A Minimum Instruction Time : 0**

**Correct Marks : 5 Wrong Marks : 1**

**Question Key Details :**

Key	Value
Comprehension	MCQ

Which of the following is not cash flow from operating Activities :-

1. Cash paid to Trade Payables
2. Payment of operating expenses
3. Payment of Interest
4. Tax paid

**Options :**

485584147245. 1
485584147246. 2
485584147247. 3
485584147248. 4

**Question Number : 67 Question Id : 48558436812 Question Type : MCQ Option Shuffling : No Is Question Mandatory : No Calculator : None Response Time : N.A Think Time : N.A Minimum Instruction Time : 0**

**Correct Marks : 5 Wrong Marks : 1**

**Question Key Details :**

Key	Value
Comprehension	MCQ

निम्नलिखित में से कौन-सी क्रिया प्रचालन क्रियाकलापों से रोकड़ प्रवाह नहीं है?

1. व्यापार देय को रोकड़ भुगतान
2. प्रचालन व्ययों का भुगतान
3. ब्याज का भुगतान
4. कर भुगतान

**Options :**

485584147245. 1  
485584147246. 2  
485584147247. 3  
485584147248. 4

**Question Number : 68 Question Id : 48558436813 Question Type : MCQ Option Shuffling : No Is Question Mandatory : No Calculator : None Response Time : N.A Think Time : N.A Minimum Instruction Time : 0**

**Correct Marks : 5 Wrong Marks : 1**

**Question Key Details :**

Key	Value
Comprehension	MCQ

Which of the following is an outflow under financing Activity.

1. Issue of Equity shares
2. Purchase of shares as Investment
3. Redemption of Debentures
4. Raising cash credit

**Options :**

485584147249. 1  
485584147250. 2  
485584147251. 3  
485584147252. 4

**Question Number : 68 Question Id : 48558436813 Question Type : MCQ Option Shuffling : No Is Question Mandatory : No Calculator : None Response Time : N.A Think Time : N.A Minimum Instruction Time : 0**

**Correct Marks : 5 Wrong Marks : 1**

**Question Key Details :**

Key	Value
Comprehension	MCQ

निम्नलिखित में से कौन सी क्रिया वित्तीय क्रियाकलापों के अंतर्गत एक बाहिर्वाह है -

1. समता अंशों का निर्गमन
2. निवेश के रूप में अंशों का क्रय
3. ऋणपत्रों का शोधन
4. उधार रोकड़ एकत्रित करना

**Options :**

485584147249. 1  
485584147250. 2  
485584147251. 3  
485584147252. 4

Question Number : 69 Question Id : 48558436814 Question Type : MCQ Option Shuffling : No Is Question Mandatory : No Calculator : None  
Response Time : N.A Think Time : N.A Minimum Instruction Time : 0

Correct Marks : 5 Wrong Marks : 1

Question Key Details :

Key	Value
Comprehension	MCQ

Which of the following is considered as cash equivalent?

1. Debtors
2. Marketable securities
3. Non current Investment
4. Stock

Options :

485584147253. 1  
485584147254. 2  
485584147255. 3  
485584147256. 4

Question Number : 69 Question Id : 48558436814 Question Type : MCQ Option Shuffling : No Is Question Mandatory : No Calculator : None  
Response Time : N.A Think Time : N.A Minimum Instruction Time : 0

Correct Marks : 5 Wrong Marks : 1

Question Key Details :

Key	Value
Comprehension	MCQ

निम्नलिखित में से किसे रोकड़ तुल्यांक माना जाता है?

1. देनदार
2. विपणीय प्रतिभूतियाँ
3. गैर-चालू निवेश
4. स्क्रैप

Options :

485584147253. 1  
485584147254. 2  
485584147255. 3  
485584147256. 4

Question Number : 70 Question Id : 48558436815 Question Type : MCQ Option Shuffling : No Is Question Mandatory : No Calculator : None  
Response Time : N.A Think Time : N.A Minimum Instruction Time : 0

Correct Marks : 5 Wrong Marks : 1

Question Key Details :

Key	Value
Comprehension	MCQ

Compute inflow/outflow from Investing Activities:-

	31.3.22 ₹	31.3.21 ₹
Plant and Machinery	3,00,000	2,00,000

Additional Information:-

A machine costing ₹ 50,000 (depreciation provided there on ₹ 15,000) was sold for ₹ 40,000. Depreciation charged during the year ₹ 50,000.

1. Inflow ₹ 1,85,000
2. Outflow ₹ 1,85,000
3. Inflow ₹ 145,000
4. Outflow ₹ 1,45,000

Options :

485584147257. 1  
485584147258. 2  
485584147259. 3  
485584147260. 4

Question Number : 70 Question Id : 48558436815 Question Type : MCQ Option Shuffling : No Is Question Mandatory : No Calculator : None  
Response Time : N.A Think Time : N.A Minimum Instruction Time : 0

Correct Marks : 5 Wrong Marks : 1

Question Key Details :

Key	Value
Comprehension	MCQ

निवेश क्रियाकलापों से अंतर्वाह/बाहिरवाह की गणना कीजिए:-

	31.3.22 ₹	31.3.21 ₹
संयंत्र तथा मशीनरी	3,00,000	2,00,000

अतिरिक्त सूचना:-

एक मशीन जिसकी लागत ₹ 50,000 (जिसमें ₹ 15,000 हास दिया गया) को ₹ 40,000 में विक्रय कर दिया। वर्ष के दौरान प्रभारित हास ₹ 50,000 था।

1. ₹ 1,85,000 अंतर्वाह
2. ₹ 1,85,000 बाहिरवाह
3. ₹ 145,000 अंतर्वाह
4. ₹ 1,45,000 बाहिरवाह

Options :

485584147257. 1  
485584147258. 2  
485584147259. 3  
485584147260. 4

Question Number : 71 Question Id : 48558436816 Question Type : MCQ Option Shuffling : No Is Question Mandatory : No Calculator : None  
Response Time : N.A Think Time : N.A Minimum Instruction Time : 0

Correct Marks : 5 Wrong Marks : 1

Question Key Details :

Key	Value
-----	-------

Liquidity Ratios include:

- A. Stock Turnover Ratio
- B. Interest Coverage Ratio
- C. Debt Equity Ratio
- D. Acid Test Ratio
- E. Current Ratio

Choose the correct answer from the options given below:

- 1. A and B only
- 2. B and C only
- 3. C and D only
- 4. D and E only

**Options :**

- 485584147261. 1
- 485584147262. 2
- 485584147263. 3
- 485584147264. 4

**Question Number : 71 Question Id : 48558436816 Question Type : MCQ Option Shuffling : No Is Question Mandatory : No Calculator : None Response Time : N.A Think Time : N.A Minimum Instruction Time : 0**

**Correct Marks : 5 Wrong Marks : 1**

**Question Key Details :**

Key	Value
Comprehension	MCQ

तरलता अनुपात में सम्मिलित है:

- A. रहतिया आवर्त अनुपात
- B. ब्याज व्याप्ति अनुपात
- C. ऋण समता अनुपात
- D. अम्ल जॉच अनुपात
- E. चालू अनुपात

नीचे दिए गए विकल्पों में से सही उत्तर का चयन कीजिए:

- 1. केवल A और B
- 2. केवल B और C
- 3. केवल C और D
- 4. केवल D और E

**Options :**

- 485584147261. 1
- 485584147262. 2
- 485584147263. 3
- 485584147264. 4

**Question Number : 72 Question Id : 48558436817 Question Type : MCQ Option Shuffling : No Is Question Mandatory : No Calculator : None Response Time : N.A Think Time : N.A Minimum Instruction Time : 0**

**Correct Marks : 5 Wrong Marks : 1**

**Question Key Details :**

Key	Value
Comprehension	MCQ

The Investing activities, from the following are:

- A. Cash received from sale of goods
- B. Purchase of non-current investment
- C. Interest received from Investment
- D. Payment to Supplier
- E. Payment to employees

Choose the correct answer from the options given below:

- 1. A and B only
- 2. B and C only
- 3. C and D only
- 4. D and E only

**Options :**

- 485584147265. 1
- 485584147266. 2
- 485584147267. 3
- 485584147268. 4

**Question Number : 72 Question Id : 48558436817 Question Type : MCQ Option Shuffling : No Is Question Mandatory : No Calculator : None Response Time : N.A Think Time : N.A Minimum Instruction Time : 0**

**Correct Marks : 5 Wrong Marks : 1**

**Question Key Details :**

Key	Value
Comprehension	MCQ

निम्नलिखित में से निवेश क्रियाकलाप है:

- A. उत्पादों के विक्रय से प्राप्त रोकड़
- B. गैर-वालू निवेश का क्रय
- C. निवेश से प्राप्त ब्याज
- D. पूर्तिकर्ताओं को भुगतान
- E. कर्मचारियों को भुगतान

नीचे दिए गए विकल्पों में से सही उत्तर का चयन कीजिए.

- 1. केवल A और B
- 2. केवल B और C
- 3. केवल C और D
- 4. केवल D और E

**Options :**

- 485584147265. 1
- 485584147266. 2
- 485584147267. 3
- 485584147268. 4

**Question Number : 73 Question Id : 48558436818 Question Type : MCQ Option Shuffling : No Is Question Mandatory : No Calculator : None Response Time : N.A Think Time : N.A Minimum Instruction Time : 0**

**Correct Marks : 5 Wrong Marks : 1**

**Question Key Details :**

Key	Value
Comprehension	MCQ

Following items are dealt within Partner's capital A/c, when capitals of the partners are fixed.

- A. Drawings out of Profit.
- B. Additional Capital.
- C. Opening balance of capital account.
- D. Interest on Capital Accounts.
- E. Drawings out of capital.

Choose the correct answer from the options given below:

- 1. B, C and E only
- 2. A, C and E only
- 3. C, D and E only
- 4. A, B, D and E only

**Options :**

- 485584147269. 1
- 485584147270. 2
- 485584147271. 3
- 485584147272. 4

**Question Number : 73 Question Id : 48558436818 Question Type : MCQ Option Shuffling : No Is Question Mandatory : No Calculator : None Response Time : N.A Think Time : N.A Minimum Instruction Time : 0**

**Correct Marks : 5 Wrong Marks : 1**

**Question Key Details :**

Key	Value
Comprehension	MCQ

निम्नलिखित मदों को साझेदार के पूँजी खाते में लिखा जाता है, जब साझेदारों की पूँजियाँ स्थाई हों .

- A. लाभ में से आहरण
- B. अतिरिक्त पूँजी
- C. पूँजी खाते का प्रारंभिक शेष
- D. पूँजी खाते पर ब्याज
- E. पूँजी में से आहरण

नीचे दिए गए विकल्पों में से सही उत्तर का चयन कीजिए:

- 1. केवल B, C और E
- 2. केवल A, C और E
- 3. केवल C, D और E
- 4. केवल A, B, D और E

**Options :**

- 485584147269. 1
- 485584147270. 2
- 485584147271. 3
- 485584147272. 4

**Question Number : 74 Question Id : 48558436819 Question Type : MCQ Option Shuffling : No Is Question Mandatory : No Calculator : None Response Time : N.A Think Time : N.A Minimum Instruction Time : 0**

**Correct Marks : 5 Wrong Marks : 1**

**Question Key Details :**

Key	Value
Comprehension	MCQ



The following deductions, if any, may have to be made from the share of deceased partner:-

- A. His drawings up to the date of death.
- B. His share of revaluation losses.
- C. Credit Balance of his current A/c (if any)
- D. His share of accumulated profits.
- E. Interest on drawings.

Choose the correct answer from the options given below:

- 1. C, D and A only
- 2. A, B, E and D only
- 3. A, B and E only
- 4. A, C, D and E only

**Options :**

- 485584147273. 1
- 485584147274. 2
- 485584147275. 3
- 485584147276. 4

**Question Number : 74 Question Id : 48558436819 Question Type : MCQ Option Shuffling : No Is Question Mandatory : No Calculator : None Response Time : N.A Think Time : N.A Minimum Instruction Time : 0**

**Correct Marks : 5 Wrong Marks : 1**

**Question Key Details :**

Key	Value
Comprehension	MCQ

निम्नलिखित में से यदि कोई कटौती है तो मृत साझेदार के भाग से की जा सकती है:-

- A. मृत्यु की तिथि तक उसका आहरण
- B. पुनर्मूल्यांकन हानि में उसका भाग
- C. उसके चालू खाते का धनी शेष (यदि कोई है)
- D. संचित लाभों में उसका भाग
- E. आहरण पर ब्याज

नीचे दिए गए विकल्पों में से सही उत्तर का चयन कीजिए:

- 1. केवल C, D और A
- 2. केवल A, B, E और D
- 3. केवल A, B और E
- 4. केवल A, C, D और E

**Options :**

- 485584147273. 1
- 485584147274. 2
- 485584147275. 3
- 485584147276. 4

**Question Number : 75 Question Id : 48558436820 Question Type : MCQ Option Shuffling : No Is Question Mandatory : No Calculator : None Response Time : N.A Think Time : N.A Minimum Instruction Time : 0**

**Correct Marks : 5 Wrong Marks : 1**

**Question Key Details :**

Key	Value
Comprehension	MCQ

Under what circumstances, valuation of goodwill is not required?

- A. Admission of partner.
- B. Death of partner.
- C. Formation of firm.
- D. Registration of firm.
- E. Dissolution of firm for sale of business as going concern.

Choose the correct answer from the options given below:

- 1. A, B and D only
- 2. C, D and E only
- 3. C and D only
- 4. A and B only

**Options :**

- 485584147277. 1
- 485584147278. 2
- 485584147279. 3
- 485584147280. 4

**Question Number : 75 Question Id : 48558436820 Question Type : MCQ Option Shuffling : No Is Question Mandatory : No Calculator : None Response Time : N.A Think Time : N.A Minimum Instruction Time : 0**

**Correct Marks : 5 Wrong Marks : 1**

**Question Key Details :**

Key	Value
Comprehension	MCQ

किन परिस्थितियों के अंतर्गत ख्याति मूल्यांकन की आवश्यकता नहीं है?

- A. साझेदार का प्रवेश
- B. साझेदार की मृत्यु
- C. फर्म की रचना
- D. फर्म का पंजीकरण
- E. निरंतरता के रूप में व्यावसाय के विक्रय हेतु फर्म का विघटन

नीचे दिए गए विकल्पों में से सही उत्तर का चयन कीजिए:

- 1. केवल A, B और D
- 2. केवल C, D और E
- 3. केवल C और D
- 4. केवल A और B

**Options :**

- 485584147277. 1
- 485584147278. 2
- 485584147279. 3
- 485584147280. 4

**Question Number : 76 Question Id : 48558436821 Question Type : MCQ Option Shuffling : No Is Question Mandatory : No Calculator : None Response Time : N.A Think Time : N.A Minimum Instruction Time : 0**

**Correct Marks : 5 Wrong Marks : 1**

**Question Key Details :**

Key	Value
Comprehension	MCQ

Arrange the following steps in correct sequence with reference to admission of a partner.

- A. Valuation and adjustment of goodwill.
- B. Calculation of proportionate Capital of new partner on the basis of old partners capital.
- C. Calculation of gaining/sacrificing Ratio.
- D. Finalising terms for admission of a new partner.
- E. Calculating adjusted balance of capital of old partner.

Choose the correct answer from the options given below:

- 1. E, D, A, C, B
- 2. E, D, C, B, A
- 3. D, E, C, A, B
- 4. D, C, A, E, B

**Options :**

- 485584147281. 1
- 485584147282. 2
- 485584147283. 3
- 485584147284. 4

**Question Number : 76 Question Id : 48558436821 Question Type : MCQ Option Shuffling : No Is Question Mandatory : No Calculator : None Response Time : N.A Think Time : N.A Minimum Instruction Time : 0**

**Correct Marks : 5 Wrong Marks : 1**

**Question Key Details :**

Key	Value
Comprehension	MCQ

एक साझेदार के प्रवेश के संदर्भ में निम्नलिखित चरणों को सही क्रम में व्यवस्थित कीजिए:

- A. स्याति का मूल्यांकन तथा समायोजन
- B. पुराने साझेदारों की पूँजी के आधार पर नये साझेदार की समानुपातिक पूँजी की गणना
- C. त्याग/अधिलाभ अनुपात की गणना
- D. एक नये साझेदार के प्रवेश हेतु शर्तों को अंतिम रूप देना
- E. पुराने साझेदारों की समायोजित पूँजी शेष की गणना करना

नीचे दिए गए विकल्पों में से सही उत्तर का चयन कीजिए:

- 1. E, D, A, C, B
- 2. E, D, C, B, A
- 3. D, E, C, A, B
- 4. D, C, A, E, B

**Options :**

- 485584147281. 1
- 485584147282. 2
- 485584147283. 3
- 485584147284. 4

**Question Number : 77 Question Id : 48558436822 Question Type : MCQ Option Shuffling : No Is Question Mandatory : No Calculator : None Response Time : N.A Think Time : N.A Minimum Instruction Time : 0**

**Correct Marks : 5 Wrong Marks : 1**

**Question Key Details :**

Key	Value
Comprehension	MCQ

Steps involved in calculation of amount received on allotment is:

- Check whether shares are allotted in proportion
- Calculate number of shares applied/allotted to calculate calls in arrear.
- Check if it is a over subscription of shares
- Deduct calls in arrear from the amount due on allotment.
- Adjust excess application money towards allotment.

Choose the correct answer from the options given below:

- A, C, D, E, B
- A, B, D, E, C
- C, A, E, B, D
- C, B, A, E, D

Options :

485584147285. 1  
485584147286. 2  
485584147287. 3  
485584147288. 4

Question Number : 77 Question Id : 48558436822 Question Type : MCQ Option Shuffling : No Is Question Mandatory : No Calculator : None  
Response Time : N.A Think Time : N.A Minimum Instruction Time : 0

Correct Marks : 5 Wrong Marks : 1

Question Key Details :

Key	Value
Comprehension	MCQ

आवंटन पर प्राप्त राशि की गणना में संक्षिप्त चरण है:

- जाँचना यदि अंश अनुपातिक आवंटित है
- बकाया याचना राशि की गणना हेतु आवंटित/आवंटित अंशों की संख्या की गणना करना
- जाँचना यदि यह अंशों का अधि-अभिदान है
- आवंटन पर देय राशि में से बकाया याचना राशि घटाना
- अतिरिक्त आवेदन राशि का आवंटन पर समापोजन करना

नीचे दिए गए विकल्पों में से सही उत्तर का चयन कीजिए:

- A, C, D, E, B
- A, B, D, E, C
- C, A, E, B, D
- C, B, A, E, D

Options :

485584147285. 1  
485584147286. 2  
485584147287. 3  
485584147288. 4

Question Number : 78 Question Id : 48558436823 Question Type : MCQ Option Shuffling : No Is Question Mandatory : No Calculator : None  
Response Time : N.A Think Time : N.A Minimum Instruction Time : 0

Correct Marks : 5 Wrong Marks : 1

Question Key Details :

Key	Value
Comprehension	MCQ

The steps in the process of formation of a public company follows the activities as given here under. Arrange them in correct sequence.

- A. Promotion
- B. Subscription of Capital
- C. Incorporation
- D. Issue of prospectus
- E. Commencement of Business

Choose the correct answer from the options given below:

- 1. A, B, C, D, E
- 2. E, A, B, C, D
- 3. A, C, D, B, E
- 4. A, C, B, D, E

**Options :**

- 485584147289. 1
- 485584147290. 2
- 485584147291. 3
- 485584147292. 4

**Question Number : 78 Question Id : 48558436823 Question Type : MCQ Option Shuffling : No Is Question Mandatory : No Calculator : None Response Time : N.A Think Time : N.A Minimum Instruction Time : 0**

**Correct Marks : 5 Wrong Marks : 1**

**Question Key Details :**

Key	Value
Comprehension	MCQ

एक सार्वजनिक कंपनी संरचना प्रक्रिया के चरणों में नीचे दी गई क्रियाओं का अनुसरण करते हैं, उन्हें सही क्रम में व्यवस्थित कीजिए।

- A. प्रवर्तन
- B. पूंजी अभिदान
- C. समावेशन
- D. विवरण पत्रिका का निर्गमन
- E. व्यवसाय प्रारंभ

नीचे दिए गए विकल्पों में से सही उत्तर का चयन कीजिए:

- 1. A, B, C, D, E
- 2. E, A, B, C, D
- 3. A, C, D, B, E
- 4. A, C, B, D, E

**Options :**

- 485584147289. 1
- 485584147290. 2
- 485584147291. 3
- 485584147292. 4

**Question Number : 79 Question Id : 48558436824 Question Type : MCQ Option Shuffling : No Is Question Mandatory : No Calculator : None Response Time : N.A Think Time : N.A Minimum Instruction Time : 0**

**Correct Marks : 5 Wrong Marks : 1**

**Question Key Details :**

Key	Value
Comprehension	MCQ

Arrange the following steps in proper sequence:

- A. Preparation of Profit and Loss A/c
- B. Preparation of partner's capital A/c
- C. Preparation of Trading Account
- D. Preparation of Profit and Loss appropriation A/c
- E. Performance of Guarantee

Choose the correct answer from the options given below:

1. A, C, D, E, B
2. C, A, D, B, E
3. C, A, D, E, B
4. C, A, E, B, D

**Options :**

485584147293. 1  
 485584147294. 2  
 485584147295. 3  
 485584147296. 4

**Question Number : 79 Question Id : 48558436824 Question Type : MCQ Option Shuffling : No Is Question Mandatory : No Calculator : None Response Time : N.A Think Time : N.A Minimum Instruction Time : 0**

**Correct Marks : 5 Wrong Marks : 1**

**Question Key Details :**

Key	Value
Comprehension	MCQ

निम्नलिखित चरणों को सही क्रम में व्यवस्थित कीजिए:

- A. लाभ तथा हानि खाता तैयार करना
- B. साझेदार का पूँजी खाता तैयार करना
- C. व्यापार खाता तैयार करना
- D. लाभ तथा हानि विनिर्भोजन खाता तैयार करना
- E. गारंटी का निष्पादन

नीचे दिए गए विकल्पों में से सही उत्तर का चयन कीजिए:

1. A, C, D, E, B
2. C, A, D, B, E
3. C, A, D, E, B
4. C, A, E, B, D

**Options :**

485584147293. 1  
 485584147294. 2  
 485584147295. 3  
 485584147296. 4

**Question Number : 80 Question Id : 48558436825 Question Type : MCQ Option Shuffling : No Is Question Mandatory : No Calculator : None Response Time : N.A Think Time : N.A Minimum Instruction Time : 0**

**Correct Marks : 5 Wrong Marks : 1**

**Question Key Details :**

Key	Value
Comprehension	MCQ

The steps in preparation of Receipt and Payment accounts are:

- A. Take out opening balance of cash, and Bank, enter on the debit side.
- B. Show the total amount of all payment on credit side irrespective of their nature.
- C. None of income receivable and expenses payable are to be entered.
- D. Find the difference between debit side and credit side that is the closing balance.
- E. Show all the receipts on the debit side irrespective of their nature.

Choose the correct answer from the options given below:

- 1. A, B, C, D, E
- 2. B, C, D, E, A
- 3. A, E, B, C, D
- 4. C, D, E, A, B

**Options :**

- 485584147297. 1
- 485584147298. 2
- 485584147299. 3
- 485584147300. 4

**Question Number : 80 Question Id : 48558436825 Question Type : MCQ Option Shuffling : No Is Question Mandatory : No Calculator : None Response Time : N.A Think Time : N.A Minimum Instruction Time : 0**

**Correct Marks : 5 Wrong Marks : 1**

**Question Key Details :**

Key	Value
Comprehension	MCQ

प्राप्ति तथा भुगतान खाता तैयार करने के चरण है:

- A. रोकड़ तथा बैंक का प्रारंभिक शेष निकालें तथा ऋणी पक्ष में दर्ज करें
- B. सभी भुगतानों को उनकी प्रकृति का विचार किये बिना कुल राशि को धनी पक्ष में दर्शाये
- C. प्राप्य आय तथा देय व्ययों में से कोई भी दर्ज नहीं करना
- D. ऋणी पक्ष तथा धनी पक्ष का अंतर ज्ञात करना जो कि अंतिम शेष है
- E. सभी प्राप्तियों को उनकी प्रकृति का विचार किये बिना ऋणी पक्ष में दर्शाना

नीचे दिए गए विकल्पों में से सही उत्तर का चयन कीजिए:

- 1. A, B, C, D, E
- 2. B, C, D, E, A
- 3. A, E, B, C, D
- 4. C, D, E, A, B

**Options :**

- 485584147297. 1
- 485584147298. 2
- 485584147299. 3
- 485584147300. 4

**Question Number : 81 Question Id : 48558436826 Question Type : MCQ Option Shuffling : No Is Question Mandatory : No Calculator : None Response Time : N.A Think Time : N.A Minimum Instruction Time : 0**

**Correct Marks : 5 Wrong Marks : 1**

**Question Key Details :**

Key	Value
Comprehension	MCQ

Match List I with List II

LIST I		LIST II	
A.	Interest on Partner's loan	I.	Debit side of Profit & Loss A/c
B.	Interest on Partner's drawings	II.	Credit side of Profit & Loss A/c
C.	Bad Debts Recovered	III.	Credit side of Partner's Capital A/c
D.	Additional Capital Introduced	IV.	Credit side of Profit & Loss Appropriation A/c

Choose the correct answer from the options given below:

1. A-I, B-II, C-III, D-IV
2. A-I, B-IV, C-II, D-III
3. A-II, B-I, C-IV, D-III
4. A-I, B-III, C-II, D-IV

Options :

485584147301. 1  
485584147302. 2  
485584147303. 3  
485584147304. 4

Question Number : 81 Question Id : 48558436826 Question Type : MCQ Option Shuffling : No Is Question Mandatory : No Calculator : None Response Time : N.A Think Time : N.A Minimum Instruction Time : 0

Correct Marks : 5 Wrong Marks : 1

Question Key Details :

Key	Value
Comprehension	MCQ

सूची I का सूची II से मिलान कीजिए

सूची I		सूची II	
A.	साझेदार के ऋण पर ब्याज	I.	ताम तथा हानि खाते का ऋणी पक्ष
B.	साझेदार के आहरण पर ब्याज	II.	ताम व हानि खाते का धनी पक्ष
C.	अशोध्य ऋण वसूल	III.	साझेदार के पूँजी खाते का धनी पक्ष
D.	अतिरिक्त पूँजी ताना	IV.	ताम वा हानि विनिर्वाजन खाते का धनी पक्ष

निम्नलिखित विकल्पों में से सही उत्तर का चयन कीजिए :

1. A-I, B-II, C-III, D-IV
2. A-I, B-IV, C-II, D-III
3. A-II, B-I, C-IV, D-III
4. A-I, B-III, C-II, D-IV

Options :

485584147301. 1  
485584147302. 2  
485584147303. 3  
485584147304. 4

Question Number : 82 Question Id : 48558436827 Question Type : MCQ Option Shuffling : No Is Question Mandatory : No Calculator : None Response Time : N.A Think Time : N.A Minimum Instruction Time : 0

Correct Marks : 5 Wrong Marks : 1

Question Key Details :

Key	Value
Comprehension	MCQ



Match List I with List II

LIST I		LIST II	
A.	Realisation Account	I.	Horizontal Analysis
B.	Revaluation Account	II.	Vertical Analysis
C.	Comparative Statement	III.	Reconstitution of Partnership firm
D.	Common size statement	IV.	Dissolution of partnership firm

Choose the correct answer from the options given below:

1. A-III, B-IV, C-II, D-I
2. A-IV, B-III, C-II, D-I
3. A-IV, B-III, C-I, D-II
4. A-III, B-IV, C-I, D-II

Options :

485584147305. 1  
485584147306. 2  
485584147307. 3  
485584147308. 4

Question Number : 82 Question Id : 48558436827 Question Type : MCQ Option Shuffling : No Is Question Mandatory : No Calculator : None Response Time : N.A Think Time : N.A Minimum Instruction Time : 0

Correct Marks : 5 Wrong Marks : 1

Question Key Details :

Key	Value
Comprehension	MCQ

सूची I का सूची II से मिलान कीजिए

सूची I		सूची II	
A.	वसूती खाता	I.	क्षितिज विश्लेषण
B.	पुनर्मुल्यांकन खाता	II.	सम्बन्धित विश्लेषण
C.	तुलनात्मक विवरण	III.	साझेदारी फर्म का पुनर्गठन
D.	सामान्य आकार विवरण	IV.	साझेदारी फर्म का विघटन

निम्नलिखित विकल्पों में से सही उत्तर का चयन कीजिए :

1. A-III, B-IV, C-II, D-I
2. A-IV, B-III, C-II, D-I
3. A-IV, B-III, C-I, D-II
4. A-III, B-IV, C-I, D-II

Options :

485584147305. 1  
485584147306. 2  
485584147307. 3  
485584147308. 4

Question Number : 83 Question Id : 48558436828 Question Type : MCQ Option Shuffling : No Is Question Mandatory : No Calculator : None Response Time : N.A Think Time : N.A Minimum Instruction Time : 0

Correct Marks : 5 Wrong Marks : 1

Question Key Details :

Key	Value
Comprehension	MCQ

Match List I with List II

LIST I		LIST II	
A.	Decrease in value of Asset	I.	Revaluation A/c Dr To Liability A/c
B.	increase in amount of liability	II.	Asset A/c Dr. To Revaluation A/c
C.	increase in value of asset	III.	Liability A/c Dr. To Revaluation A/c
D.	decrease in amount of liability	IV.	Revaluation A/c Dr. To Asset A/c

Choose the correct answer from the options given below:

1. A-I, B-II, C-III, D-IV
2. A-II, B-I, C-IV, D-III
3. A-III, B-IV, C-I, D-II
4. A-IV, B-I, C-II, D-III

Options :

485584147309. 1  
485584147310. 2  
485584147311. 3  
485584147312. 4

Question Number : 83 Question Id : 48558436828 Question Type : MCQ Option Shuffling : No Is Question Mandatory : No Calculator : None Response Time : N.A Think Time : N.A Minimum Instruction Time : 0

Correct Marks : 5 Wrong Marks : 1

Question Key Details :

Key	Value
Comprehension	MCQ

सूची I का सूची II से मिलान कीजिए

सूची I		सूची II	
A.	परिसंपत्ति के मूल्य में कमी	I.	पुनर्मूल्यांकन खाता ऋणी दायित्व खाते से
B.	दायित्व की राशि में वृद्धि	II.	परिसंपत्ति खाता ऋणी पुनर्मूल्यांकन खाते से
C.	परिसंपत्ति के मूल्य में वृद्धि	III.	दायित्व खाता ऋणी पुनर्मूल्यांकन खाते से
D.	दायित्व की राशि में कमी	IV.	पुनर्मूल्यांकन खाता ऋणी परिसंपत्ति खाते से

निम्नलिखित विकल्पों में से सही उत्तर का चयन कीजिए :

1. A-I, B-II, C-III, D-IV
2. A-II, B-I, C-IV, D-III
3. A-III, B-IV, C-I, D-II
4. A-IV, B-I, C-II, D-III

Options :

485584147309. 1  
485584147310. 2  
485584147311. 3  
485584147312. 4

Question Number : 84 Question Id : 48558436829 Question Type : MCQ Option Shuffling : No Is Question Mandatory : No Calculator : None Response Time : N.A Think Time : N.A Minimum Instruction Time : 0

Correct Marks : 5 Wrong Marks : 1

Question Key Details :

Key	Value
Comprehension	MCQ

Match List I with List II

LIST I		LIST II	
A.	Amount of capital which has not been called up	I.	Authorised Share Capital
B.	Amount of capital which is not called and reserve for winding up	II.	Subscribed Capital
C.	Amount of share capital which is authorised by company	III.	Reserve Capital
D.	Amount of share capital which is subscribed by public	IV.	Uncalled Capital

Choose the correct answer from the options given below:

1. A-III, B-II, C-I, D-IV
2. A-IV, B-II, C-I, D-III
3. A-III, B-IV, C-II, D-I
4. A-IV, B-III, C-I, D-II

Options :

485584147313. 1  
485584147314. 2  
485584147315. 3  
485584147316. 4

Question Number : 84 Question Id : 48558436829 Question Type : MCQ Option Shuffling : No Is Question Mandatory : No Calculator : None Response Time : N.A Think Time : N.A Minimum Instruction Time : 0

Correct Marks : 5 Wrong Marks : 1

Question Key Details :

Key	Value
Comprehension	MCQ

सूची I का सूची II से मिलान कीजिए

सूची I		सूची II	
A.	पूँजी की वो राशि जो अंश तक माँगी न जा सकी	I.	अधिकृत अंश पूँजी
B.	पूँजी की वो राशि जो अयाचित है तथा समाप्त के लिये आरक्षित है	II.	अभिदत्त पूँजी
C.	अंश पूँजी की वो राशि जो कंपनी द्वारा अधिकृत है	III.	आरक्षित पूँजी
D.	अंश पूँजी की वो राशि जो जनता द्वारा अभिदत्त है	IV.	अयाचित पूँजी

निम्नलिखित विकल्पों में से सही उत्तर का चयन कीजिए :

1. A-III, B-II, C-I, D-IV
2. A-IV, B-II, C-I, D-III
3. A-III, B-IV, C-II, D-I
4. A-IV, B-III, C-I, D-II

Options :

485584147313. 1  
485584147314. 2  
485584147315. 3  
485584147316. 4

Question Number : 85 Question Id : 48558436830 Question Type : MCQ Option Shuffling : No Is Question Mandatory : No Calculator : None Response Time : N.A Think Time : N.A Minimum Instruction Time : 0

Correct Marks : 5 Wrong Marks : 1

Question Key Details :

Key	Value
Comprehension	MCQ

Match List I with List II

LIST I		LIST II	
A.	Bearer Debentures	I.	These are issued with a specified rate of interest
B.	Specific Coupon Rate Debentures	II.	These are payable on expiry of the specific period
C.	Unsecured Debentures	III.	The debentures which can be transferred by way of delivery
D.	Redeemable Debentures	IV.	They do not have a specific charge on the assets of the company

Choose the correct answer from the options given below:

1. A-I, B-II, C-III, D-IV
2. A-III, B-I, C-IV, D-II
3. A-III, B-IV, C-I, D-II
4. A-II, B-I, C-III, D-IV

Options :

485584147317. 1  
485584147318. 2  
485584147319. 3  
485584147320. 4

Question Number : 85 Question Id : 48558436830 Question Type : MCQ Option Shuffling : No Is Question Mandatory : No Calculator : None Response Time : N.A Think Time : N.A Minimum Instruction Time : 0

Correct Marks : 5 Wrong Marks : 1

Question Key Details :

Key	Value
Comprehension	MCQ

सूची I का सूची II से मिलान कीजिए

सूची I	सूची II
A. वाहक ऋणपत्र	I. ये विशिष्ट ब्याज दर के साथ निर्गमित किये जाते हैं
B. विशिष्ट कूपन दर ऋणपत्र	II. ये विशिष्ट अवधि की समाप्ति पर देय होते हैं
C. आरक्षित ऋणपत्र	III. वे ऋणपत्र जो सुपुर्दगी के द्वारा हस्तांतरित किये जा सकते हैं
D. मोचनीय ऋणपत्र	IV. इनका कंपनी की परिसंपत्तियों पर कोई विशिष्ट प्रभार नहीं होता

निम्नलिखित विकल्पों में से सही उत्तर का चयन कीजिए :

1. A-I, B-II, C-III, D-IV
2. A-III, B-I, C-IV, D-II
3. A-III, B-IV, C-I, D-II
4. A-II, B-I, C-III, D-IV

Options :

485584147317. 1  
485584147318. 2  
485584147319. 3  
485584147320. 4

Question Number : 86 Question Id : 48558436831 Question Type : MCQ Option Shuffling : No Is Question Mandatory : No Calculator : None  
Response Time : N.A Think Time : N.A Minimum Instruction Time : 0

Correct Marks : 5 Wrong Marks : 1

Question Key Details :

Key	Value
Comprehension	MCQ

What is inferred goodwill?

1. Total value of goodwill
2. Average goodwill
3. Hidden goodwill
4. Undistributed goodwill

Options :

485584147321. 1

485584147322. 2

485584147323. 3

485584147324. 4

Question Number : 86 Question Id : 48558436831 Question Type : MCQ Option Shuffling : No Is Question Mandatory : No Calculator : None  
Response Time : N.A Think Time : N.A Minimum Instruction Time : 0

Correct Marks : 5 Wrong Marks : 1

Question Key Details :

Key	Value
Comprehension	MCQ

अनुमानित ख्याति क्या है?

1. ख्याति का कुल मूल्य
2. औसत ख्याति
3. प्रच्छिन्न ख्याति
4. अविभाजित ख्याति

Options :

485584147321. 1

485584147322. 2

485584147323. 3

485584147324. 4

Question Number : 87 Question Id : 48558436832 Question Type : MCQ Option Shuffling : No Is Question Mandatory : No Calculator : None  
Response Time : N.A Think Time : N.A Minimum Instruction Time : 0

Correct Marks : 5 Wrong Marks : 1

Question Key Details :

Key	Value
Comprehension	MCQ

Arun, Barun and Tarun are partners in a firm. Karun is admitted as a new partner.

1. Old firm is dissolved
2. Old firm and old partnership is dissolved
3. Old partnership is reconstituted
4. New firm is dissolved

Options :

485584147325. 1  
485584147326. 2  
485584147327. 3  
485584147328. 4

**Question Number : 87 Question Id : 48558436832 Question Type : MCQ Option Shuffling : No Is Question Mandatory : No Calculator : None  
Response Time : N.A Think Time : N.A Minimum Instruction Time : 0**

**Correct Marks : 5 Wrong Marks : 1**

**Question Key Details :**

Key	Value
Comprehension	MCQ

अरूण, बरूण तथा तरूण एक फर्म से साझेदार हैं, करूण एक नये साझेदार के रूप में शामिल होता है, तब-

1. पुरानी फर्म विघटित हो गई है
2. पुरानी फर्म तथा पुरानी साझेदारी विघटित हो गई है
3. पुरानी साझेदारी पुनर्गठित हो गई है
4. नई फर्म विघटित हो गई है

**Options :**

485584147325. 1  
485584147326. 2  
485584147327. 3  
485584147328. 4

**Question Number : 88 Question Id : 48558436833 Question Type : MCQ Option Shuffling : No Is Question Mandatory : No Calculator : None  
Response Time : N.A Think Time : N.A Minimum Instruction Time : 0**

**Correct Marks : 5 Wrong Marks : 1**

**Question Key Details :**

Key	Value
Comprehension	MCQ

In case new partner failed to bring goodwill in cash, which of the following account is debited?

1. New Partner's Capital Account
2. New Partner's Current Account
3. Old Partner's Capital Account
4. Old Partner's Current Account

**Options :**

485584147329. 1  
485584147330. 2  
485584147331. 3  
485584147332. 4

**Question Number : 88 Question Id : 48558436833 Question Type : MCQ Option Shuffling : No Is Question Mandatory : No Calculator : None  
Response Time : N.A Think Time : N.A Minimum Instruction Time : 0**

**Correct Marks : 5 Wrong Marks : 1**

**Question Key Details :**

Key	Value
Comprehension	MCQ

नये साझेदार द्वारा खाति की राशि रोकड़ में लाने पर असफल होने की दशा में निम्नलिखित में से कौन-सा खाता ऋणी होता है?

1. नये साझेदार का पूँजी खाता
2. नये साझेदार का चालू खाता
3. पुराने साझेदार का पूँजी खाता
4. पुराने साझेदार का चालू खाता

**Options :**

485584147329. 1  
485584147330. 2  
485584147331. 3  
485584147332. 4

**Question Number : 89 Question Id : 48558436834 Question Type : MCQ Option Shuffling : No Is Question Mandatory : No Calculator : None Response Time : N.A Think Time : N.A Minimum Instruction Time : 0**

**Correct Marks : 5 Wrong Marks : 1**

**Question Key Details :**

Key	Value
Comprehension	MCQ

Preliminary expenses should be written off first from \_\_\_\_\_ and balance if any from \_\_\_\_\_.

1. Capital receipts, revenue receipts
2. Revenue receipts, capital receipts
3. Securities premium, statement of profit and loss
4. Statement of profit and loss, Securities premium

**Options :**

485584147333. 1  
485584147334. 2  
485584147335. 3  
485584147336. 4

**Question Number : 89 Question Id : 48558436834 Question Type : MCQ Option Shuffling : No Is Question Mandatory : No Calculator : None Response Time : N.A Think Time : N.A Minimum Instruction Time : 0**

**Correct Marks : 5 Wrong Marks : 1**

**Question Key Details :**

Key	Value
Comprehension	MCQ

प्रारंभिक व्यय का अभिलेखन प्रथम \_\_\_\_\_ से तथा शेष यदि कोई है तो \_\_\_\_\_ से होना चाहिए।

1. पूँजीगत प्राप्तियाँ, आयगत प्राप्तियाँ
2. आयगत प्राप्तियाँ, पूँजीगत प्राप्तियाँ
3. प्रतिभूति प्रीमियम, लाभ तथा हानि विवरण
4. लाभ तथा हानि विवरण, प्रतिभूति प्रीमियम

**Options :**

485584147333. 1  
485584147334. 2  
485584147335. 3

485584147336.4

Question Number : 90 Question Id : 48558436835 Question Type : MCQ Option Shuffling : No Is Question Mandatory : No Calculator : None  
Response Time : N.A Think Time : N.A Minimum Instruction Time : 0  
Correct Marks : 5 Wrong Marks : 1

Question Key Details :

Key	Value
Comprehension	MCQ

The Receipt and Payment A/c is a summary of-

1. Assets and liabilities
2. Expense and Income
3. Cash receipts and payments
4. Debit and credit balance of ledger account

Options :

485584147337. 1  
485584147338. 2  
485584147339. 3  
485584147340. 4

Question Number : 90 Question Id : 48558436835 Question Type : MCQ Option Shuffling : No Is Question Mandatory : No Calculator : None  
Response Time : N.A Think Time : N.A Minimum Instruction Time : 0  
Correct Marks : 5 Wrong Marks : 1

Question Key Details :

Key	Value
Comprehension	MCQ

प्राप्ति एवं भुगतान खाता किसका सारांश है .

1. परिसंपत्तियाँ तथा दायित्व
2. व्यय तथा आय
3. रोक्ड़ प्राप्तियाँ तथा भुगतान
4. खाताबही का ऋणी तथा धनी शेष

Options :

485584147337. 1  
485584147338. 2  
485584147339. 3  
485584147340. 4

Sub-Section Number : 2  
Sub-Section Id : 4855842787  
Question Shuffling Allowed : No  
Is Section Default? : null

Question Number : 91 Question Id : 48558436836 Question Type : MCQ Option Shuffling : No Is Question Mandatory : No Calculator : None  
Response Time : N.A Think Time : N.A Minimum Instruction Time : 0  
Correct Marks : 5 Wrong Marks : 1

Question Key Details :

Key	Value
Comprehension	Comp1



Give answers to questions Q.No 41 to 45 on the basis of information given below:

Surya Ltd invited applications for 60,000 of its equity shares of ₹10 each on the following terms.

Payable on application ₹5 per share

Payable on Allotment ₹3 per share

Payable on first and final call ₹2 per share

Application for 75,000 share were received. It was decided that:

- a. to refuse allotment to the applicants for 3,000 shares
- b. to allot in full to applicant for 12,000 shares
- c. to allot the balance of the available shares pro-rata among the others applicants;
- d. to utilise excess application money towards payment of allotment money.

One applicant Raman who is holding 60 shares from Pro-rata category did not pay the amount due on allotment and on the call. His shares were forfeited on non payment of calls. These shares were reissued @ 9 per share fully paid.

Calculate the numbers of shares applied by Raman.

1. 60
2. 75
3. 90
4. 72

**Options :**

485584147341. 1  
485584147342. 2  
485584147343. 3  
485584147344. 4

**Question Number : 91 Question Id : 48558436836 Question Type : MCQ Option Shuffling : No Is Question Mandatory : No Calculator : None Response Time : N.A Think Time : N.A Minimum Instruction Time : 0**

**Correct Marks : 5 Wrong Marks : 1**

**Question Key Details :**

Key	Value
Comprehension	Comp1

नीचे दी गई सूचना के आधार पर प्रश्न 41-45 के उत्तर दीजिए:

सूर्य लि. ने ₹10 प्रत्येक वाले 60,000 समता अंशों के लिये निम्नलिखित शर्तों पर जनता से आवेदन आमंत्रित किये

आवेदन पर देय ₹5 प्रति अंश

आवंटन पर देय ₹3 प्रति अंश

प्रथम तथा अंतिम याचना पर देय ₹2 प्रति अंश

75000 अंशों के लिये आवेदन प्राप्त हुए, यह निर्णय किया गया कि:

- 3000 अंशों के आवेदकों का आवंटन निरस्त करना
- 12,000 अंशों के आवेदकों को पूर्ण आवंटन
- शेष उपलब्ध अंशों का अन्य आवेदकों को अनुपातिक आवंटन
- अतिरिक्त आवेदन राशि का आवंटन राशि के भुगतान के लिए उपयोग करना

एक आवेदक रमन जो अनुपातिक श्रेणी से 60 अंशों का धारक है उसने आवंटन तथा याचना पर देय राशि का भुगतान नहीं किया। याचना का भुगतान न करने पर उसके अंशों का हरण कर लिया। इन अंशों को ₹9 प्रति अंश पूर्ण दत्त पर पुनः निर्गमित किया गया।

रमन द्वारा आवेदित किये गये अंशों की संख्या की गणना कीजिए -

- 60
- 75
- 90
- 72

**Options :**

485584147341. 1
485584147342. 2
485584147343. 3
485584147344. 4

**Question Number : 92 Question Id : 48558436837 Question Type : MCQ Option Shuffling : No Is Question Mandatory : No Calculator : None Response Time : N.A Think Time : N.A Minimum Instruction Time : 0**

**Correct Marks : 5 Wrong Marks : 1**

**Question Key Details :**

Key	Value
Comprehension	Comp1

Give answers to questions Q.No 41 to 45 on the basis of information given below:

Surya Ltd invited applications for 60,000 of its equity shares of ₹10 each on the following terms.

Payable on application ₹5 per share

Payable on Allotment ₹3 per share

Payable on first and final call ₹2 per share

Application for 75,000 share were received. It was decided that:

- a. to refuse allotment to the applicants for 3,000 shares
- b. to allot in full to applicant for 12,000 shares
- c. to allot the balance of the available shares pro-rata among the others applicants;
- d. to utilise excess application money towards payment of allotment money.

One applicant Raman who is holding 60 shares from Pro-rata category did not pay the amount due on allotment and on the call. His shares were forfeited on non payment of calls. These shares were reissued @ 9 per share fully paid.

Calculate the amount of calls in arrears on allotment

1. ₹ 375
2. ₹ 225
3. ₹ 105
4. ₹ 180

**Options :**

485584147345. 1
485584147346. 2
485584147347. 3
485584147348. 4

**Question Number : 92 Question Id : 48558436837 Question Type : MCQ Option Shuffling : No Is Question Mandatory : No Calculator : None Response Time : N.A Think Time : N.A Minimum Instruction Time : 0**

**Correct Marks : 5 Wrong Marks : 1**

**Question Key Details :**

Key	Value
Comprehension	Comp1

नीचे दी गई सूचना के आधार पर प्रश्न 41-45 के उत्तर दीजिए:

सूर्य लि. ने ₹10 प्रत्येक वाले 60,000 समता अंशों के लिये निम्नलिखित शर्तों पर जनता से आवेदन आमंत्रित किये

आवेदन पर देय ₹5 प्रति अंश

आवंटन पर देय ₹3 प्रति अंश

प्रथम तथा अंतिम याचना पर देय ₹2 प्रति अंश

75000 अंशों के लिये आवेदन प्राप्त हुए, यह निर्णय किया गया कि:

- 3000 अंशों के आवेदकों का आवंटन निरस्त करना
- 12,000 अंशों के आवेदकों को पूर्ण आवंटन
- शेष उपलब्ध अंशों का अन्य आवेदकों को अनुपातिक आवंटन
- अतिरिक्त आवेदन राशि का आवंटन राशि के भुगतान के लिए उपयोग करना

एक आवेदक रमन जो अनुपातिक श्रेणी से 60 अंशों का धारक है उसने आवंटन तथा याचना पर देय राशि का भुगतान नहीं किया। याचना का भुगतान न करने पर उसके अंशों का हरण कर लिया। इन अंशों को ₹9 प्रति अंश पूर्ण दत्त पर पुनः निर्गमित किया गया।

आवंटन पर बकाया याचना राशि की गणना कीजिए -

- ₹ 375
- ₹ 225
- ₹ 105
- ₹ 180

**Options :**

485584147345. 1
485584147346. 2
485584147347. 3
485584147348. 4

**Question Number : 93 Question Id : 48558436838 Question Type : MCQ Option Shuffling : No Is Question Mandatory : No Calculator : None Response Time : N.A Think Time : N.A Minimum Instruction Time : 0**

**Correct Marks : 5 Wrong Marks : 1**

**Question Key Details :**

Key	Value
Comprehension	Comp1

Give answers to questions Q.No 41 to 45 on the basis of information given below:

Surya Ltd invited applications for 60,000 of its equity shares of ₹10 each on the following terms.

Payable on application ₹5 per share

Payable on Allotment ₹3 per share

Payable on first and final call ₹2 per share

Application for 75,000 share were received. It was decided that:

- to refuse allotment to the applicants for 3,000 shares
- to allot in full to applicant for 12,000 shares
- to allot the balance of the available shares pro-rata among the others applicants;
- to utilise excess application money towards payment of allotment money.

One applicant Raman who is holding 60 shares from Pro-rata category did not pay the amount due on allotment and on the call. His shares were forfeited on non payment of calls. These shares were reissued @ 9 per share fully paid.

Record journal entry for forfeiture of Raman's share:

- Share Capital A/c Dr. 600  
    To share Allotment A/c 105  
    To Share first and final call A/c 120  
    To share forfeiture A/c 375
- Share capital A/c Dr. 600  
    To Share allotment A/c 180  
    To share 1st & Final call A/c 120  
    To share forfeiture A/c 300
- Share Capital A/c Dr. 600  
    Securities Premium A/c Dr. 120  
    To Share Allotment A/c 180  
    To Share 1st and final Call A/c 120  
    To Share forfeiture A/c 420
- Bank A/c Dr. 720  
    To Share Capital A/c 600  
    To Securities Premium reserve A/c 120

**Options :**

485584147349. 1
485584147350. 2
485584147351. 3
485584147352. 4

Question Number : 93 Question Id : 48558436838 Question Type : MCQ Option Shuffling : No Is Question Mandatory : No Calculator : None  
Response Time : N.A Think Time : N.A Minimum Instruction Time : 0

Correct Marks : 5 Wrong Marks : 1

Question Key Details :

Key	Value
Comprehension	Compl

नीचे दी गई सूचना के आधार पर प्रश्न 41-45 के उत्तर दीजिए:

सूर्या लि. ने ₹10 प्रत्येक वाले 60,000 समता अंशों के लिये निम्नलिखित शर्तों पर जनता से आवेदन आमंत्रित किये

आवेदन पर देय ₹5 प्रति अंश

आवंटन पर देय ₹3 प्रति अंश

प्रथम तथा अंतिम याचना पर देय ₹2 प्रति अंश

75000 अंशों के लिये आवेदन प्राप्त हुए, यह निर्णय किया गया कि:

- 3000 अंशों के आवेदकों का आवंटन निरस्त करना
- 12,000 अंशों के आवेदकों को पूर्ण आवंटन
- शेष उपलब्ध अंशों का अन्य आवेदकों को आनुपातिक आवंटन
- अतिरिक्त आवेदन राशि का आवंटन राशि के भुगतान के लिए उपयोग करना

एक आवेदक रमन जो आनुपातिक श्रेणी से 60 अंशों का धारक है उसने आवंटन तथा याचना पर देय राशि का भुगतान नहीं किया। याचना का भुगतान न करने पर उसके अंशों का हरण कर लिया। इन अंशों को ₹9 प्रति अंश पूर्ण दत्त पर पुनः निर्गमित किया गया।

रमन के हरण किये गये अंशों के लिये रोजनामचा में प्रतिष्ठि कीजिए -

- अंश पूँजी खाता ऋणी 600
 

अंश आवंटन खाते से	105
अंश प्रथम व अंतिम याचना खाते से	120
अंश हरण खाते से	375
- अंश पूँजी खाता ऋणी 600
 

अंश आवंटन खाते से	180
अंश प्रथम व अंतिम याचना खाते से	120
अंश हरण खाते से	300
- अंश पूँजी खाता ऋणी 600
 

प्रतिभूति प्रीमियम खाता ऋणी	120
अंश आवंटन खाते से	180
अंश प्रथम व अंतिम याचना खाते से	120
अंश हरण खाते से	300
- बैंक खाता ऋणी 720
 

अंश पूँजी खाते से	600
प्रतिभूति प्रीमियम संकय खाते से	120

**Options :**

485584147349. 1

485584147350. 2

485584147351.3  
485584147352.4

Question Number : 94 Question Id : 48558436839 Question Type : MCQ Option Shuffling : No Is Question Mandatory : No Calculator : None  
Response Time : N.A Think Time : N.A Minimum Instruction Time : 0  
Correct Marks : 5 Wrong Marks : 1

Question Key Details :

Key	Value
Comprehension	Comp1

Give answers to questions Q.No 41 to 45 on the basis of information given below:

Surya Ltd invited applications for 60,000 of its equity shares of ₹10 each on the following terms.

Payable on application ₹5 per share

Payable on Allotment ₹3 per share

Payable on first and final call ₹2 per share

Application for 75,000 share were received. It was decided that:

- to refuse allotment to the applicants for 3,000 shares
- to allot in full to applicant for 12,000 shares
- to allot the balance of the available shares pro-rata among the others applicants;
- to utilise excess application money towards payment of allotment money.

One applicant Raman who is holding 60 shares from Pro-rata category did not pay the amount due on allotment and on the call. His shares were forfeited on non payment of calls. These shares were reissued @ ₹9 per share fully paid.

Gain on re-issue of forfeited Shares transferred to:

- Capital Reserve
- Reserve Capital
- General Reserve
- Capital Redemption Reserve

Options :

485584147353.1  
485584147354.2  
485584147355.3  
485584147356.4

Question Number : 94 Question Id : 48558436839 Question Type : MCQ Option Shuffling : No Is Question Mandatory : No Calculator : None  
Response Time : N.A Think Time : N.A Minimum Instruction Time : 0  
Correct Marks : 5 Wrong Marks : 1

Question Key Details :

Key	Value
Comprehension	Comp1

नीचे दी गई सूचना के आधार पर प्रश्न 41-45 के उत्तर दीजिए:

सूर्य लि. ने ₹10 प्रत्येक वाले 60,000 समता अंशों के लिये निम्नलिखित शर्तों पर जनता से आवेदन आमंत्रित किये

आवेदन पर देय ₹5 प्रति अंश

आवंटन पर देय ₹3 प्रति अंश

प्रथम तथा अंतिम याचना पर देय ₹2 प्रति अंश

75000 अंशों के लिये आवेदन प्राप्त हुए, यह निर्णय किया गया कि:

- 3000 अंशों के आवेदकों का आवंटन निरस्त करना
- 12,000 अंशों के आवेदकों को पूर्ण आवंटन
- शेष उपलब्ध अंशों का अन्य आवेदकों को अनुपातिक आवंटन
- अतिरिक्त आवेदन राशि का आवंटन राशि के भुगतान के लिए उपयोग करना

एक आवेदक रमन जो अनुपातिक श्रेणी से 60 अंशों का धारक है उसने आवंटन तथा याचना पर देय राशि का भुगतान नहीं किया। याचना का भुगतान न करने पर उसके अंशों का हरण कर लिया। इन अंशों को ₹9 प्रति अंश पूर्ण दत्त पर पुनः निर्गमित किया गया।

हरण किये गये अंशों के पुनः निर्गमन पर लाभ किसमे हस्तांतरित होता है -

- पूँजीगत संचय
- आरक्षित पूँजी
- सामान्य संचय
- पूँजी शोधन संचय

**Options :**

485584147353. 1
485584147354. 2
485584147355. 3
485584147356. 4

**Question Number : 95 Question Id : 48558436840 Question Type : MCQ Option Shuffling : No Is Question Mandatory : No Calculator : None Response Time : N.A Think Time : N.A Minimum Instruction Time : 0**

**Correct Marks : 5 Wrong Marks : 1**

**Question Key Details :**

Key	Value
Comprehension	Comp1



Give answers to questions Q.No 41 to 45 on the basis of information given below:

Surya Ltd invited applications for 60,000 of its equity shares of ₹10 each on the following terms.

Payable on application ₹5 per share

Payable on Allotment ₹3 per share

Payable on first and final call ₹2 per share

Application for 75,000 share were received. It was decided that:

- a. to refuse allotment to the applicants for 3,000 shares
- b. to allot in full to applicant for 12,000 shares
- c. to allot the balance of the available shares pro-rata among the others applicants;
- d. to utilise excess application money towards payment of allotment money.

One applicant Raman who is holding 60 shares from Pro-rata category did not pay the amount due on allotment and on the call. His shares were forfeited on non payment of calls. These shares were reissued @ 9 per share fully paid.

Pro-rata allotment was made in the ratio of \_\_\_\_\_

1. 4:5

2. 7:6

3. 5:4

4. 6:5

**Options :**

485584147357. 1

485584147358. 2

485584147359. 3

485584147360. 4

**Question Number : 95 Question Id : 48558436840 Question Type : MCQ Option Shuffling : No Is Question Mandatory : No Calculator : None Response Time : N.A Think Time : N.A Minimum Instruction Time : 0**

**Correct Marks : 5 Wrong Marks : 1**

**Question Key Details :**

Key	Value
Comprehension	Comp1

नीचे दी गई सूचना के आधार पर प्रश्न 41-45 के उत्तर दीजिए:

सूर्य लि. ने ₹10 प्रत्येक वाले 60,000 समता अंशों के लिये निम्नलिखित शर्तों पर जनता से आवेदन आमंत्रित किये

आवेदन पर देय ₹5 प्रति अंश

आवंटन पर देय ₹3 प्रति अंश

प्रथम तथा अंतिम याचना पर देय ₹2 प्रति अंश

75000 अंशों के लिये आवेदन प्राप्त हुए, यह निर्णय किया गया कि:

- 3000 अंशों के आवेदकों का आवंटन निरस्त करना
- 12,000 अंशों के आवेदकों को पूर्ण आवंटन
- शेष उपलब्ध अंशों का अन्य आवेदकों को अनुपातिक आवंटन
- अतिरिक्त आवेदन राशि का आवंटन राशि के भुगतान के लिए उपयोग करना

एक आवेदक रमन जो अनुपातिक श्रेणी से 60 अंशों का धारक है उसने आवंटन तथा याचना पर देय राशि का भुगतान नहीं किया। याचना का भुगतान न करने पर उसके अंशों का हरण कर लिया। इन अंशों को ₹9 प्रति अंश पूर्ण दत्त पर पुनः निर्गमित किया गया।

अनुपातिक आवंटन \_\_\_\_\_ के अनुपात में किया गया था।

- 4:5
- 7:6
- 5:4
- 6:5

**Options :**

485584147357. 1
485584147358. 2
485584147359. 3
485584147360. 4

Sub-Section Number : 3  
Sub-Section Id : 4855842788  
Question Shuffling Allowed : No  
Is Section Default? : null

Question Number : 96 Question Id : 48558436841 Question Type : MCQ Option Shuffling : No Is Question Mandatory : No Calculator : None  
Response Time : N.A Think Time : N.A Minimum Instruction Time : 0

Correct Marks : 5 Wrong Marks : 1

**Question Key Details :**

Key	Value
Comprehension	Comp2

Give answers to questions 46 to 50 on the basis of information given below.

A, B and C sharing profits in the ratio of 3:1:1 decided to dissolve their firm on 31st March 2022 their position was as follows:-

Balance sheet on 31st March 2022

Liabilities	Amount ₹	Assets	Amount ₹
Creditors	60,000	Bank	55,000
Loan	15,000	Stock	83,000
Capitals		Furniture	12,000
A. 2,75,000		Debtors	242,000
B. 1,10,000		provision	12,000
C. 1,00,000			
	4,85,000	Building	2,30,000
B's Loan A/c			2,00,000
	20,000		
	5,80,000		5,80,000

A took over Furniture at a discount of 10% of market value which was 20% above book value.

B took over debtors at 10% above book value.

B's loan was settled by giving stock at 20% discount and balance of stock was realised at 90% of book value.

For how much amount A will be debited against taking over furniture:

1. ₹9,600
2. ₹12,000
3. ₹12,960
4. ₹12,840

Options :

485584147361. 1  
485584147362. 2  
485584147363. 3  
485584147364. 4

Question Number : 96 Question Id : 48558436841 Question Type : MCQ Option Shuffling : No Is Question Mandatory : No Calculator : None Response Time : N.A Think Time : N.A Minimum Instruction Time : 0

Correct Marks : 5 Wrong Marks : 1

Question Key Details :

Key	Value
Comprehension	Comp2

नीचे दी गई सूचना के आधार पर प्रश्नों के उत्तर दीजिए-

A, B तथा C लाभ का विभाजन 3:1:1 के अनुपात में करते हैं। उन्होंने फर्म का विघटन करने का निर्णय लिया। 31 मार्च 2022 को उसकी स्थिति निम्न प्रकार थी:-

31 मार्च 2022 को तुलन पत्र

दायित्व	राशि (₹)	परिसंपत्तिया	राशि (₹)
देनदार	60,000	बैंक	55,000
ऋण	15,000	रहतिया	83,000
पूँजी		फर्नीचर	12,000
A. 2,75,000		देनदार	242,000
B. 1,10,000		(-) प्रावधान	12,000
C. 1,00,000	4,85,000		2,30,000
		भवन	2,00,000
B का ऋण खाता	20,000		
	5,80,000		5,80,000

A ने फर्नीचर बाजार मूल्य से 10% के बट्टे पर लिया जो कि पुस्तक मूल्य से 20% अधिक है

B ने देनदार पुस्तक मूल्य से 10% अधिक पर लिये

B के ऋण का भुगतान 20% बट्टे पर रहतिया देकर किया तथा शेष रहतिया से पुस्तक मूल्य का 90% वसूल हुए।

फर्नीचर लेने के लिये A कितनी राशि से ऋणी होगा?

1. ₹9,600
2. ₹12,000
3. ₹12,960
4. ₹12,840

**Options :**

485584147361. 1
485584147362. 2
485584147363. 3
485584147364. 4

Question Number : 97 Question Id : 48558436842 Question Type : MCQ Option Shuffling : No Is Question Mandatory : No Calculator : None Response Time : N.A Think Time : N.A Minimum Instruction Time : 0

Correct Marks : 5 Wrong Marks : 1

Question Key Details :

Key	Value
Comprehension	Comp2

Give answers to questions 46 to 50 on the basis of information given below.

A, B and C sharing profits in the ratio of 3:1:1 decided to dissolve their firm on 31st March 2022 their position was as follows:-

Balance sheet on 31st March 2022

Liabilities	Amount ₹	Assets	Amount ₹
Creditors	60,000	Bank	55,000
Loan	15,000	Stock	83,000
Capitals		Furniture	12,000
A. 2,75,000		Debtors	242,000
B. 1,10,000		provision	12,000
C. 1,00,000			2,30,000
	4,85,000	Building	2,00,000
B's Loan A/c	20,000		5,80,000
	5,80,000		

A took over Furniture at a discount of 10% of market value which was 20% above book value.

B took over debtors at 10% above book value.

B's loan was settled by giving stock at 20% discount and balance of stock was realised at 90% of book value.

On dissolution of the firm, Partners capital accounts are closed through:

1. Loan Account
2. Drawings Account
3. Realisation Account
4. Bank Account

**Options :**

- 485584147365. 1
- 485584147366. 2
- 485584147367. 3
- 485584147368. 4

Question Number : 97 Question Id : 48558436842 Question Type : MCQ Option Shuffling : No Is Question Mandatory : No Calculator : None Response Time : N.A Think Time : N.A Minimum Instruction Time : 0

Correct Marks : 5 Wrong Marks : 1

Question Key Details :

Key	Value
Comprehension	Comp2

नीचे दी गई सूचना के आधार पर प्रश्नों के उत्तर दीजिए-

A, B तथा C लाभ का विभाजन 3:1:1 के अनुपात में करते हैं। उन्होंने फर्म का विघटन करने का निर्णय लिया। 31 मार्च 2022 को उसकी स्थिति निम्न प्रकार थी:-

31 मार्च 2022 को तुलना पत्र

दायित्व	राशि (₹)	परिसंपत्तिया	राशि (₹)
देनदार	60,000	बैंक	55,000
ऋण	15,000	रहतिया	83,000
पूँजी		फर्नीचर	12,000
A. 2,75,000		देनदार	242,000
B. 1,10,000		(-) प्रावधान	12,000
C. 1,00,000	4,85,000		2,30,000
B का ऋण खाता	20,000	भवन	2,00,000
	5,80,000		5,80,000

A ने फर्नीचर बाजार मूल्य से 10% के बट्टे पर लिया जो कि पुस्तक मूल्य से 20% अधिक है

B ने देनदार पुस्तक मूल्य से 10% अधिक पर लिये

B के ऋण का भुगतान 20% बट्टे पर रहतिया देकर किया तथा शेष रहतिया से पुस्तक मूल्य का 90% वसूल हुए।

फर्म के विघटन पर, साझेदारों के पूँजी खाते इसके द्वारा बंद होते हैं -

1. ऋण खाता
2. आहरण खाता
3. वसूली खाता
4. बैंक खाता

Options :

485584147365. 1

485584147366. 2

485584147367. 3

485584147368. 4

Question Number : 98 Question Id : 48558436843 Question Type : MCQ Option Shuffling : No Is Question Mandatory : No Calculator : None Response Time : N.A Think Time : N.A Minimum Instruction Time : 0

Correct Marks : 5 Wrong Marks : 1

Question Key Details :

Key	Value
Comprehension	Comp2

Give answers to questions 46 to 50 on the basis of information given below.

A, B and C sharing profits in the ratio of 3:1:1 decided to dissolve their firm on 31st March 2022 their position was as follows:-

Balance sheet on 31st March 2022

Liabilities	Amount ₹	Assets	Amount ₹
Creditors	60,000	Bank	55,000
Loan	15,000	Stock	83,000
Capitals		Furniture	12,000
A. 2,75,000		Debtors	242,000
B. 1,10,000		provision	12,000
C. 1,00,000			2,30,000
	4,85,000	Building	2,00,000
B's Loan A/c			5,80,000
	20,000		
	5,80,000		

A took over Furniture at a discount of 10% of market value which was 20% above book value.

B took over debtors at 10% above book value.

B's loan was settled by giving stock at 20% discount and balance of stock was realised at 90% of book value.

When realisation expenses are paid by the firm on behalf of a Partner, such expenses are debited to:

1. Realisation Account
2. Partner's Capital Account
3. Partner's Loan Account
4. Bank Account

**Options :**

485584147369. 1  
 485584147370. 2  
 485584147371. 3  
 485584147372. 4

Question Number : 98 Question Id : 48558436843 Question Type : MCQ Option Shuffling : No Is Question Mandatory : No Calculator : None  
 Response Time : N.A Think Time : N.A Minimum Instruction Time : 0

Correct Marks : 5 Wrong Marks : 1

Question Key Details :

Key	Value
Comprehension	Comp2

नीचे दी गई सूचना के आधार पर प्रश्नों के उत्तर दीजिए:-

A, B तथा C लाभ का विभाजन 3:1:1 के अनुपात में करते हैं। उन्होंने फर्म का विघटन करने का निर्णय लिया। 31 मार्च 2022 को उसकी स्थिति निम्न प्रकार थी:-

31 मार्च 2022 को तुलना पत्र

दायित्व	राशि (₹)	परिसंपत्तिया	राशि (₹)
देनदार	60,000	बैंक	55,000
ऋण	15,000	रहतिया	83,000
पूँजी		फर्नीचर	12,000
A. 2,75,000		देनदार	242,000
B. 1,10,000		(-) प्रावधान	12,000
C. 1,00,000	4,85,000		2,30,000
B का ऋण खाता	20,000	भवन	2,00,000
	5,80,000		5,80,000

A ने फर्नीचर बाजार मूल्य से 10% के बट्टे पर लिया जो कि पुस्तक मूल्य से 20% अधिक है

B ने देनदार पुस्तक मूल्य से 10% अधिक पर लिये

B के ऋण का भुगतान 20% बट्टे पर रहतिया देकर किया तथा शेष रहतिया से पुस्तक मूल्य का 90% वसूल हुए।

जब वसूली व्यय एक साझेदार की ओर से फर्म द्वारा भुगतान किये जाते है, ऐसी व्यय ऋणी होते है -

1. वसूली खाता
2. साझेदार का पूँजी खाता
3. साझेदार का ऋण खाता
4. बैंक खाता

**Options :**

485584147369. 1

485584147370. 2

485584147371. 3

485584147372. 4

**Question Number : 99 Question Id : 48558436844 Question Type : MCQ Option Shuffling : No Is Question Mandatory : No Calculator : None Response Time : N.A Think Time : N.A Minimum Instruction Time : 0**

**Correct Marks : 5 Wrong Marks : 1**

**Question Key Details :**

Key	Value
Comprehension	Comp2



Give answers to questions 46 to 50 on the basis of information given below.

A, B and C sharing profits in the ratio of 3:1:1 decided to dissolve their firm on 31st March 2022 their position was as follows:-

Balance sheet on 31st March 2022

Liabilities	Amount ₹	Assets	Amount ₹
Creditors	60,000	Bank	55,000
Loan	15,000	Stock	83,000
Capitals		Furniture	12,000
A. 2,75,000		Debtors	242,000
B. 1,10,000		provision	12,000
C. 1,00,000			2,30,000
	4,85,000	Building	2,00,000
B's Loan A/c	20,000		5,80,000
	5,80,000		

A took over Furniture at a discount of 10% of market value which was 20% above book value.

B took over debtors at 10% above book value.

B's loan was settled by giving stock at 20% discount and balance of stock was realised at 90% of book value.

For how much amount B will be debited for taking over Debtors:-

1. ₹2,53,000
2. ₹2,66,200
3. ₹2,62,800
4. ₹2,40,000

Options :

485584147373. 1  
 485584147374. 2  
 485584147375. 3  
 485584147376. 4

Question Number : 99 Question Id : 48558436844 Question Type : MCQ Option Shuffling : No Is Question Mandatory : No Calculator : None Response Time : N.A Think Time : N.A Minimum Instruction Time : 0

Correct Marks : 5 Wrong Marks : 1

Question Key Details :

Key	Value
Comprehension	Comp2

नीचे दी गई सूचना के आधार पर प्रश्नों के उत्तर दीजिए-

A, B तथा C लाभ का विभाजन 3:1:1 के अनुपात में करते हैं। उन्होंने फर्म का विघटन करने का निर्णय लिया। 31 मार्च 2022 को उसकी स्थिति निम्न प्रकार थी:-

31 मार्च 2022 को तुलना पत्र

दायित्व	राशि (₹)	परिसंपत्तिया	राशि (₹)
देनदार	60,000	बैंक	55,000
ऋण	15,000	रहतिया	83,000
पूँजी		फर्नीचर	12,000
A. 2,75,000		देनदार	242,000
B. 1,10,000		(-) प्रावधान	12,000
C. 1,00,000	4,85,000		2,30,000
B का ऋण खाता	20,000	भवन	2,00,000
	5,80,000		5,80,000

A ने फर्नीचर बाजार मूल्य से 10% के बट्टे पर लिया जो कि पुस्तक मूल्य से 20% अधिक है

B ने देनदार पुस्तक मूल्य से 10% अधिक पर लिये

B के ऋण का भुगतान 20% बट्टे पर रहतिया देकर किया तथा शेष रहतिया से पुस्तक मूल्य का 90% वसूल हुए।

देनदार लेने के लिये B कितनी राशि से ऋणी होगा?

1. ₹2,53,000
2. ₹2,66,200
3. ₹2,62,800
4. ₹2,40,000

**Options :**

485584147373. 1
485584147374. 2
485584147375. 3
485584147376. 4

**Question Number : 100 Question Id : 48558436845 Question Type : MCQ Option Shuffling : No Is Question Mandatory : No Calculator : None Response Time : N.A Think Time : N.A Minimum Instruction Time : 0**

**Correct Marks : 5 Wrong Marks : 1**

**Question Key Details :**

Key	Value
Comprehension	Comp2

Give answers to questions 46 to 50 on the basis of information given below.

A, B and C sharing profits in the ratio of 3:1:1 decided to dissolve their firm on 31st March 2022 their position was as follows:-

Balance sheet on 31st March 2022

Liabilities	Amount ₹	Assets	Amount ₹
Creditors	60,000	Bank	55,000
Loan	15,000	Stock	83,000
Capitals		Furniture	12,000
A. 2,75,000		Debtors	242,000
B. 1,10,000		provision	12,000
C. 1,00,000			
	4,85,000	Building	2,30,000
B's Loan A/c			2,00,000
	20,000		
	5,80,000		5,80,000

A took over Furniture at a discount of 10% of market value which was 20% above book value.

B took over debtors at 10% above book value.

B's loan was settled by giving stock at 20% discount and balance of stock was realised at 90% of book value.

Calculate the amount realised by selling stock.

1. ₹52,000
2. ₹54,600
3. ₹54,000
4. ₹52,200

Options :

485584147377. 1  
 485584147378. 2  
 485584147379. 3  
 485584147380. 4

Question Number : 100 Question Id : 48558436845 Question Type : MCQ Option Shuffling : No Is Question Mandatory : No Calculator : None Response Time : N.A Think Time : N.A Minimum Instruction Time : 0

Correct Marks : 5 Wrong Marks : 1

Question Key Details :

Key	Value
Comprehension	Comp2

नीचे दी गई सूचना के आधार पर प्रश्नों के उत्तर दीजिए-

A, B तथा C लाभ का विभाजन 3:1:1 के अनुपात में करते हैं। उन्होंने फर्म का विघटन करने का निर्णय लिया। 31 मार्च 2022 को उसकी स्थिति निम्न प्रकार थी-

31 मार्च 2022 को तुलना पत्र

दायित्व	राशि (₹)	परिसंपत्तिया	राशि (₹)
देनदार	60,000	बैंक	55,000
ऋण	15,000	रहतिया	83,000
पूँजी		फर्नीचर	12,000
A. 2,75,000		देनदार	242,000
B. 1,10,000		(-) प्रावधान	12,000
C. 1,00,000	4,85,000		2,30,000
		भवन	2,00,000
B का ऋण खाता	20,000		
	5,80,000		5,80,000

A ने फर्नीचर बाजार मूल्य से 10% के बट्टे पर लिया जो कि पुस्तक मूल्य से 20% अधिक है

B ने देनदार पुस्तक मूल्य से 10% अधिक पर लिये

B के ऋण का भुगतान 20% बट्टे पर रहतिया देकर किया तथा शेष रहतिया से पुस्तक मूल्य का 90% वसूल हुए।

रहतिया के विक्रय से वसूल राशि की गणना कीजिए।

1. ₹52,000
2. ₹54,600
3. ₹54,000
4. ₹52,200

Options :

485584147377. 1
485584147378. 2
485584147379. 3
485584147380. 4

## Agriculture

Group Number :	3
Group Id :	485584852
Group Maximum Duration :	45
Group Minimum Duration :	45
Show Attended Group? :	No
Edit Attended Group? :	No
Break time :	0
Group Marks :	200
Is this Group for Examiner? :	No
Examiner permission :	Cant View
Show Progress Bar? :	No

## Agriculture

Section Id : 485584980

Section Number : 1  
Section type : Online  
Mandatory or Optional : Mandatory  
Number of Questions : 50  
Number of Questions to be attempted : 40  
Section Marks : 200  
Enable Mark as Answered Mark for Review and Clear Response : Yes  
Maximum Instruction Time : 0  
Sub-Section Number : 1  
Sub-Section Id : 4855842789  
Question Shuffling Allowed : Yes  
Is Section Default? : null

Question Number : 101 Question Id : 48558436846 Question Type : MCQ Option Shuffling : No Is Question Mandatory : No Calculator : None  
Response Time : N.A Think Time : N.A Minimum Instruction Time : 0

Correct Marks : 5 Wrong Marks : 1

Question Key Details :

Key	Value
Comprehension	MCQ

What is the wavelength of an electromagnetic radiation, whose frequency is  $6 \times 10^6 \text{ s}^{-1}$ , and speed of light is  $3 \times 10^8 \text{ ms}^{-1}$ .

1. 5 nm
2. 50 nm
3. 500 nm
4. 5000 nm

Options :

485584147381. 1  
485584147382. 2  
485584147383. 3  
485584147384. 4

Question Number : 101 Question Id : 48558436846 Question Type : MCQ Option Shuffling : No Is Question Mandatory : No Calculator : None  
Response Time : N.A Think Time : N.A Minimum Instruction Time : 0

Correct Marks : 5 Wrong Marks : 1

Question Key Details :

Key	Value
Comprehension	MCQ

किसी वेद्युतचुम्बकीय विकिरण की तरंग दैर्घ्य क्या होगी जिसकी आवृत्ति  $6 \times 10^6 \text{ s}^{-1}$  है तथा प्रकाश की गति  $3 \times 10^8 \text{ मी.से.}^{-1}$  है?

1. 5 nm
2. 50 nm
3. 500 nm
4. 5000 nm

Options :

485584147381. 1  
485584147382. 2  
485584147383. 3  
485584147384. 4

Question Number : 102 Question Id : 48558436847 Question Type : MCQ Option Shuffling : No Is Question Mandatory : No Calculator : None  
Response Time : N.A Think Time : N.A Minimum Instruction Time : 0

Correct Marks : 5 Wrong Marks : 1

Question Key Details :

Key	Value
Comprehension	MCQ

The atmosphere is vertically divided into the following layers Write the correct sequence from lower to upper layer from the earth

- A. Troposphere
- B. Ionosphere
- C. Stratosphere
- D. Mesosphere
- E. Exosphere

Choose the correct answer from the options given below:

- 1. A, C, D, B, E
- 2. A, C, B, D, E
- 3. A, B, C, D, E
- 4. A, D, C, B, E

Options :

- 485584147385. 1
- 485584147386. 2
- 485584147387. 3
- 485584147388. 4

Question Number : 102 Question Id : 48558436847 Question Type : MCQ Option Shuffling : No Is Question Mandatory : No Calculator : None Response Time : N.A Think Time : N.A Minimum Instruction Time : 0

Correct Marks : 5 Wrong Marks : 1

Question Key Details :

Key	Value
Comprehension	MCQ

वायुमंडल को ऊर्ध्व रूप से निम्नलिखित परतों में विभाजित किया गया है। पृथ्वी पर निचली परत से ऊपर की तरफ इनका सही क्रम बताएँ।

- A. क्षीममंडल
- B. आयनमंडल
- C. समतापमंडल
- D. मध्यमंडल
- E. बहिमंडल

नीचे दिए गए विकल्पों में से सही उत्तर चुनें:

- 1. A, C, D, B, E
- 2. A, C, B, D, E
- 3. A, B, C, D, E
- 4. A, D, C, B, E

Options :

- 485584147385. 1
- 485584147386. 2
- 485584147387. 3
- 485584147388. 4

Question Number : 103 Question Id : 48558436848 Question Type : MCQ Option Shuffling : No Is Question Mandatory : No Calculator : None Response Time : N.A Think Time : N.A Minimum Instruction Time : 0

Correct Marks : 5 Wrong Marks : 1

Question Key Details :

Key	Value
Comprehension	MCQ

In Down's syndrome disorder additional copy of which chromosome number is present ?

1. 22
2. 21
3. 23
4. 20

Options :

- 485584147389. 1
- 485584147390. 2
- 485584147391. 3
- 485584147392. 4

Question Number : 103 Question Id : 48558436848 Question Type : MCQ Option Shuffling : No Is Question Mandatory : No Calculator : None Response Time : N.A Think Time : N.A Minimum Instruction Time : 0

Correct Marks : 5 Wrong Marks : 1

Question Key Details :

Key	Value
Comprehension	MCQ

डाउन सिंड्रोम विकार में किस गुणसूत्र संख्या की अतिरिक्त प्रति विद्यमान होती है?

1. 22
2. 21
3. 23
4. 20

Options :

- 485584147389. 1
- 485584147390. 2
- 485584147391. 3
- 485584147392. 4

Question Number : 104 Question Id : 48558436849 Question Type : MCQ Option Shuffling : No Is Question Mandatory : No Calculator : None Response Time : N.A Think Time : N.A Minimum Instruction Time : 0

Correct Marks : 5 Wrong Marks : 1

Question Key Details :

Key	Value
Comprehension	MCQ

PCR in biotechnology stands for:

1. Polymer Chain Reaction
2. Polymer Cut Reaction
3. Polymerase Cut Reaction
4. Polymerase Chain Reaction

Options :

- 485584147393. 1
- 485584147394. 2

485584147395. 3  
485584147396. 4

**Question Number : 104 Question Id : 48558436849 Question Type : MCQ Option Shuffling : No Is Question Mandatory : No Calculator : None  
Response Time : N.A Think Time : N.A Minimum Instruction Time : 0  
Correct Marks : 5 Wrong Marks : 1**

**Question Key Details :**

Key	Value
Comprehension	MCQ

जैव प्रौद्योगिकी में PCR किसके लिए प्रयुक्त होता है?

1. पॉलीमर चेन रिएक्शन
2. पॉलीमर कट रिएक्शन
3. पॉलीमरेज़ कट रिएक्शन
4. पॉलीमरेज़ चेन रिएक्शन

**Options :**

485584147393. 1  
485584147394. 2  
485584147395. 3  
485584147396. 4

**Question Number : 105 Question Id : 48558436850 Question Type : MCQ Option Shuffling : No Is Question Mandatory : No Calculator : None  
Response Time : N.A Think Time : N.A Minimum Instruction Time : 0  
Correct Marks : 5 Wrong Marks : 1**

**Question Key Details :**

Key	Value
Comprehension	MCQ

ABO blood group is an example of :

1. Law of dominance
2. Multiple alleles
3. Law of segregation
4. Law of Independent assortment

**Options :**

485584147397. 1  
485584147398. 2  
485584147399. 3  
485584147400. 4

**Question Number : 105 Question Id : 48558436850 Question Type : MCQ Option Shuffling : No Is Question Mandatory : No Calculator : None  
Response Time : N.A Think Time : N.A Minimum Instruction Time : 0  
Correct Marks : 5 Wrong Marks : 1**

**Question Key Details :**

Key	Value
Comprehension	MCQ



ABO रक्त समूह निम्न में से किसका उदाहरण है?

1. प्रभाविता का सिद्धान्त
2. बहु अलील
3. पृथक्करण का सिद्धान्त
4. स्वतंत्र अपव्यूहन का सिद्धान्त

**Options :**

485584147397. 1  
485584147398. 2  
485584147399. 3  
485584147400. 4

**Question Number : 106 Question Id : 48558436851 Question Type : MCQ Option Shuffling : No Is Question Mandatory : No Calculator : None Response Time : N.A Think Time : N.A Minimum Instruction Time : 0**

**Correct Marks : 5 Wrong Marks : 1**

**Question Key Details :**

Key	Value
Comprehension	MCQ

"Chromosomal theory of inheritance" was given by:

1. T.H Morgan
2. Sutton and Boveri
3. Fischer
4. Francis Crick

**Options :**

485584147401. 1  
485584147402. 2  
485584147403. 3  
485584147404. 4

**Question Number : 106 Question Id : 48558436851 Question Type : MCQ Option Shuffling : No Is Question Mandatory : No Calculator : None Response Time : N.A Think Time : N.A Minimum Instruction Time : 0**

**Correct Marks : 5 Wrong Marks : 1**

**Question Key Details :**

Key	Value
Comprehension	MCQ

वंशागति के गुणसूत्रीय सिद्धान्त का प्रतिपादन किसने किया था?

1. टी एच मॉर्गन
2. सटन तथा बोवरी
3. फिशर
4. फ्रांसिस क्रिक

**Options :**

485584147401. 1  
485584147402. 2  
485584147403. 3  
485584147404. 4

Question Number : 107 Question Id : 48558436852 Question Type : MCQ Option Shuffling : No Is Question Mandatory : No Calculator : None  
Response Time : N.A Think Time : N.A Minimum Instruction Time : 0

Correct Marks : 5 Wrong Marks : 1

Question Key Details :

Key	Value
Comprehension	MCQ

What are the end product of hydrolysis of one molecule of sucrose?

1. One molecule of glucose and one molecule of fructose
2. Two molecules of glucose
3. Two molecules of fructose
4. One molecule of glucose and one molecule of ribose

Options :

485584147405. 1

485584147406. 2

485584147407. 3

485584147408. 4

Question Number : 107 Question Id : 48558436852 Question Type : MCQ Option Shuffling : No Is Question Mandatory : No Calculator : None  
Response Time : N.A Think Time : N.A Minimum Instruction Time : 0

Correct Marks : 5 Wrong Marks : 1

Question Key Details :

Key	Value
Comprehension	MCQ

सूक्रोज के एक अणु के जलअपघटन का अंतिम उत्पाद क्या होता है?

1. ग्लूकोज का एक अणु तथा फ्रक्टोज का एक अणु
2. ग्लूकोज के दो अणु
3. फ्रक्टोज के दो अणु
4. ग्लूकोज का एक अणु तथा राइबोज का एक अणु

Options :

485584147405. 1

485584147406. 2

485584147407. 3

485584147408. 4

Question Number : 108 Question Id : 48558436853 Question Type : MCQ Option Shuffling : No Is Question Mandatory : No Calculator : None  
Response Time : N.A Think Time : N.A Minimum Instruction Time : 0

Correct Marks : 5 Wrong Marks : 1

Question Key Details :

Key	Value
Comprehension	MCQ

Match List I with List II

LIST I		LIST II	
A.	Amylopectin	I.	Egg white coagulation on boiling
B.	Protein denaturation	II.	Natural amino acid
C.	Cellulose	III.	$\beta$ -D-glucose
D.	Glutamine	IV.	$\alpha$ -D-glucose

Choose the correct answer from the options given below:

1. A-IV, B-I, C-II, D-III
2. A-IV, B-II, C-III, D-I
3. A-I, B-III, C-IV, D-II
4. A-IV, B-I, C-III, D-II

Options :

485584147409. 1  
485584147410. 2  
485584147411. 3  
485584147412. 4

Question Number : 108 Question Id : 48558436853 Question Type : MCQ Option Shuffling : No Is Question Mandatory : No Calculator : None Response Time : N.A Think Time : N.A Minimum Instruction Time : 0

Correct Marks : 5 Wrong Marks : 1

Question Key Details :

Key	Value
Comprehension	MCQ

सूची I का सूची II से मिलान कीजिए

सूची I		सूची II	
A.	आमाइलोपेक्टिन	I.	उबालने पर अंडे की सफेदी का जम जाना
B.	प्रोटीन विकृतिकरण	II.	प्राकृतिक अमीनो अम्ल
C.	सिल्यूलोज	III.	$\beta$ -D-ग्लूकोज़
D.	ग्लूटमीन	IV.	$\alpha$ -D-ग्लूकोज़

निम्नलिखित विकल्पों में से सही उत्तर का चयन कीजिए :

1. A-IV, B-I, C-II, D-III
2. A-IV, B-II, C-III, D-I
3. A-I, B-III, C-IV, D-II
4. A-IV, B-I, C-III, D-II

Options :

485584147409. 1  
485584147410. 2  
485584147411. 3  
485584147412. 4

Question Number : 109 Question Id : 48558436854 Question Type : MCQ Option Shuffling : No Is Question Mandatory : No Calculator : None Response Time : N.A Think Time : N.A Minimum Instruction Time : 0

Correct Marks : 5 Wrong Marks : 1

Question Key Details :

Key	Value
Comprehension	MCQ

Which microbe helps in the preparation of bread ?

1. Bacteria
2. Yeast
3. Rhizopus
4. Algae

**Options :**

485584147413. 1  
485584147414. 2  
485584147415. 3  
485584147416. 4

**Question Number : 109 Question Id : 48558436854 Question Type : MCQ Option Shuffling : No Is Question Mandatory : No Calculator : None Response Time : N.A Think Time : N.A Minimum Instruction Time : 0**

**Correct Marks : 5 Wrong Marks : 1**

**Question Key Details :**

Key	Value
Comprehension	MCQ

कौन सा सूक्ष्मजीवी ब्रेड बनाने में सहायक है?

1. जीवाणु
2. खमीर
3. राइजोपस
4. शैवाल

**Options :**

485584147413. 1  
485584147414. 2  
485584147415. 3  
485584147416. 4

**Question Number : 110 Question Id : 48558436855 Question Type : MCQ Option Shuffling : No Is Question Mandatory : No Calculator : None Response Time : N.A Think Time : N.A Minimum Instruction Time : 0**

**Correct Marks : 5 Wrong Marks : 1**

**Question Key Details :**

Key	Value
Comprehension	MCQ

Match List I with List II

LIST I		LIST II	
A.	Facultative Parasite	I.	Lichen
B.	Obligate parasite	II.	Agaricus
C.	Saprophyte	III.	Puccinia
D.	Symbionts	IV.	Fusarium

Choose the correct answer from the options given below:

1. A-II, B-III, C-IV, D-I
2. A-IV, B-III, C-II, D-I
3. A-I, B-III, C-II, D-IV
4. A-IV, B-II, C-III, D-I

Options :

485584147417. 1  
485584147418. 2  
485584147419. 3  
485584147420. 4

Question Number : 110 Question Id : 48558436855 Question Type : MCQ Option Shuffling : No Is Question Mandatory : No Calculator : None Response Time : N.A Think Time : N.A Minimum Instruction Time : 0

Correct Marks : 5 Wrong Marks : 1

Question Key Details :

Key	Value
Comprehension	MCQ

सूची I का सूची II से मिलान कीजिए

सूची I		सूची II	
A.	विकल्पी परजीवी	I.	लाइकेन
B.	अविकल्पी परजीवी	II.	अगरिकस
C.	मृतजीवी	III.	पक्सोनिफा
D.	सहजीवी	IV.	फ्यूज़ेरियम

निम्नलिखित विकल्पों में से सही उत्तर का चयन कीजिए :

1. A-II, B-III, C-IV, D-I
2. A-IV, B-III, C-II, D-I
3. A-I, B-III, C-II, D-IV
4. A-IV, B-II, C-III, D-I

Options :

485584147417. 1  
485584147418. 2  
485584147419. 3  
485584147420. 4

Question Number : 111 Question Id : 48558436856 Question Type : MCQ Option Shuffling : No Is Question Mandatory : No Calculator : None Response Time : N.A Think Time : N.A Minimum Instruction Time : 0

Correct Marks : 5 Wrong Marks : 1

Question Key Details :

Key	Value
Comprehension	MCQ

Breeds of cattle whose bullocks are excellent draft animals, while the cows are poor milkers are known as \_\_\_\_\_ breeds.

1. Milch
2. Dual-purpose
3. Draught-purpose
4. Triple-purpose

**Options :**

485584147421. 1  
485584147422. 2  
485584147423. 3  
485584147424. 4

**Question Number : 111 Question Id : 48558436856 Question Type : MCQ Option Shuffling : No Is Question Mandatory : No Calculator : None Response Time : N.A Think Time : N.A Minimum Instruction Time : 0**

**Correct Marks : 5 Wrong Marks : 1**

**Question Key Details :**

Key	Value
Comprehension	MCQ

पशुओं की नस्लों जिनके बैल उत्कृष्ट बोझ ढोने वाले होते हैं जबकि गाए कम दूध देने वाली होती हैं \_\_\_\_\_ नस्लें कहलाती हैं।

1. दुधारू
2. द्वि-उद्देश्यी
3. प्रवात-उद्देश्यी
4. त्रि-उद्देश्यी

**Options :**

485584147421. 1  
485584147422. 2  
485584147423. 3  
485584147424. 4

**Question Number : 112 Question Id : 48558436857 Question Type : MCQ Option Shuffling : No Is Question Mandatory : No Calculator : None Response Time : N.A Think Time : N.A Minimum Instruction Time : 0**

**Correct Marks : 5 Wrong Marks : 1**

**Question Key Details :**

Key	Value
Comprehension	MCQ

The most dominant carbohydrate in milk is :

1. Glucose
2. Fructose
3. Cellulose
4. Lactose

**Options :**

485584147425. 1  
485584147426. 2  
485584147427. 3

485584147428. 4

Question Number : 112 Question Id : 48558436857 Question Type : MCQ Option Shuffling : No Is Question Mandatory : No Calculator : None  
Response Time : N.A Think Time : N.A Minimum Instruction Time : 0

Correct Marks : 5 Wrong Marks : 1

Question Key Details :

Key	Value
Comprehension	MCQ

दूध में सबसे अधिक प्रभावी कार्बोहाइड्रेट है:

1. म्लूकोज़
2. फ्रक्टोस
3. सेन्सूलोज
4. लैक्टोज

Options :

485584147425. 1  
485584147426. 2  
485584147427. 3  
485584147428. 4

Question Number : 113 Question Id : 48558436858 Question Type : MCQ Option Shuffling : No Is Question Mandatory : No Calculator : None  
Response Time : N.A Think Time : N.A Minimum Instruction Time : 0

Correct Marks : 5 Wrong Marks : 1

Question Key Details :

Key	Value
Comprehension	MCQ

Milk fever in cow and buffalo occurs due to :

1. Bacterial infection
2. Calcium deficiency
3. Sodium deficiency
4. Sodium toxicity

Options :

485584147429. 1  
485584147430. 2  
485584147431. 3  
485584147432. 4

Question Number : 113 Question Id : 48558436858 Question Type : MCQ Option Shuffling : No Is Question Mandatory : No Calculator : None  
Response Time : N.A Think Time : N.A Minimum Instruction Time : 0

Correct Marks : 5 Wrong Marks : 1

Question Key Details :

Key	Value
Comprehension	MCQ

गाय तथा भैंस में दुग्ध ज्वर \_\_\_\_\_ के कारण होता है।

1. जीवाणु संक्रमण
2. कैल्शियम की कमी
3. सोडियम की कमी
4. सोडियम विषाक्तता

**Options :**

485584147429. 1  
485584147430. 2  
485584147431. 3  
485584147432. 4

**Question Number : 114 Question Id : 48558436859 Question Type : MCQ Option Shuffling : No Is Question Mandatory : No Calculator : None Response Time : N.A Think Time : N.A Minimum Instruction Time : 0**

**Correct Marks : 5 Wrong Marks : 1**

**Question Key Details :**

Key	Value
Comprehension	MCQ

Which of the following can be added as a protein supplement to chicken feed?

1. Maize grain
2. Soybean cake
3. Wheat grain
4. Wheat bran

**Options :**

485584147433. 1  
485584147434. 2  
485584147435. 3  
485584147436. 4

**Question Number : 114 Question Id : 48558436859 Question Type : MCQ Option Shuffling : No Is Question Mandatory : No Calculator : None Response Time : N.A Think Time : N.A Minimum Instruction Time : 0**

**Correct Marks : 5 Wrong Marks : 1**

**Question Key Details :**

Key	Value
Comprehension	MCQ

कुक्कुट के भोजन में निम्न में से किसको प्रोटीन पूरक की तरह उपयोग में लाया जा सकता है?

1. मक्का के दाने
2. सोयाबीन की टिकिया
3. गेहूँ के दाने
4. गेहूँ का चोकर

**Options :**

485584147433. 1  
485584147434. 2  
485584147435. 3  
485584147436. 4



Question Number : 115 Question Id : 48558436860 Question Type : MCQ Option Shuffling : No Is Question Mandatory : No Calculator : None  
Response Time : N.A Think Time : N.A Minimum Instruction Time : 0

Correct Marks : 5 Wrong Marks : 1

Question Key Details :

Key	Value
Comprehension	MCQ

Which of the following is **not** a part of male reproductive system of chicken?

1. Oviduct
2. Vas deferens
3. Testes
4. Papillae

Options :

- 485584147437. 1
- 485584147438. 2
- 485584147439. 3
- 485584147440. 4

Question Number : 115 Question Id : 48558436860 Question Type : MCQ Option Shuffling : No Is Question Mandatory : No Calculator : None  
Response Time : N.A Think Time : N.A Minimum Instruction Time : 0

Correct Marks : 5 Wrong Marks : 1

Question Key Details :

Key	Value
Comprehension	MCQ

निम्न में से कौन सा भाग कुक्कुट के नर प्रजनन तंत्र का हिस्सा **नहीं** है?

1. अंडवाहिनी
2. शुक्र वाहक
3. वृषण
4. पेपिला

Options :

- 485584147437. 1
- 485584147438. 2
- 485584147439. 3
- 485584147440. 4

Question Number : 116 Question Id : 48558436861 Question Type : MCQ Option Shuffling : No Is Question Mandatory : No Calculator : None  
Response Time : N.A Think Time : N.A Minimum Instruction Time : 0

Correct Marks : 5 Wrong Marks : 1

Question Key Details :

Key	Value
Comprehension	MCQ

Which of the following is not an advantage of the 'head to head' system of double row cattle housing, but an advantage of the 'tail to tail' system of double cattle housing?

1. In cleaning and milking the cows, the middle wide alley is very helpful
2. Cows make a good exhibition for visitors
3. Feeding of cows is easier
4. Cows feel easier to get into their stalls

**Options :**

- 485584147441. 1
- 485584147442. 2
- 485584147443. 3
- 485584147444. 4

**Question Number : 116 Question Id : 48558436861 Question Type : MCQ Option Shuffling : No Is Question Mandatory : No Calculator : None Response Time : N.A Think Time : N.A Minimum Instruction Time : 0**

**Correct Marks : 5 Wrong Marks : 1**

**Question Key Details :**

Key	Value
Comprehension	MCQ

निम्न में से कौन सा लाभ किसी द्वि पंक्ति पशुगृह की 'शीर्ष-शीर्ष' प्रणाली का नहीं है परंतु किसी द्वि पशुगृह की 'पृच्छ-पृच्छ' प्रणाली का है?

1. मध्य में चौड़ी गली गायों की सफाई तथा दूध निकालने में बहुत सहायक होती है।
2. आगंतुकों के लिए गायों का अच्छा प्रदर्शन हो जाता है।
3. गायों का पोषण आसानी से हो जाता है।
4. गायों को अपने-अपने स्तंभ (स्थान) में जाने में सुविधा महसूस होती है।

**Options :**

- 485584147441. 1
- 485584147442. 2
- 485584147443. 3
- 485584147444. 4

**Question Number : 117 Question Id : 48558436862 Question Type : MCQ Option Shuffling : No Is Question Mandatory : No Calculator : None Response Time : N.A Think Time : N.A Minimum Instruction Time : 0**

**Correct Marks : 5 Wrong Marks : 1**

**Question Key Details :**

Key	Value
Comprehension	MCQ

In a normal poultry egg the percentage of yolk is approximately :

1. 10%
2. 20%
3. 30%
4. 40%

**Options :**

- 485584147445. 1
- 485584147446. 2
- 485584147447. 3

485584147448. 4

**Question Number : 117 Question Id : 48558436862 Question Type : MCQ Option Shuffling : No Is Question Mandatory : No Calculator : None Response Time : N.A Think Time : N.A Minimum Instruction Time : 0 Correct Marks : 5 Wrong Marks : 1**

**Question Key Details :**

Key	Value
Comprehension	MCQ

एक साधारण कुक्कुट अंडे में पीतक की निकटतम प्रतिशत है :

1. 10 %
2. 20 %
3. 30 %
4. 40 %

**Options :**

485584147445. 1  
485584147446. 2  
485584147447. 3  
485584147448. 4

**Question Number : 118 Question Id : 48558436863 Question Type : MCQ Option Shuffling : No Is Question Mandatory : No Calculator : None Response Time : N.A Think Time : N.A Minimum Instruction Time : 0 Correct Marks : 5 Wrong Marks : 1**

**Question Key Details :**

Key	Value
Comprehension	MCQ

Which sweet is prepared from khoa?

1. Peda
2. Paneer
3. Channa
4. Curd

**Options :**

485584147449. 1  
485584147450. 2  
485584147451. 3  
485584147452. 4

**Question Number : 118 Question Id : 48558436863 Question Type : MCQ Option Shuffling : No Is Question Mandatory : No Calculator : None Response Time : N.A Think Time : N.A Minimum Instruction Time : 0 Correct Marks : 5 Wrong Marks : 1**

**Question Key Details :**

Key	Value
Comprehension	MCQ

खोया से कौन सी मिठाई बनती है ?

1. पेड़ा
2. पनीर
3. छेना
4. दही

**Options :**

485584147449. 1  
485584147450. 2  
485584147451. 3  
485584147452. 4

**Question Number : 119 Question Id : 48558436864 Question Type : MCQ Option Shuffling : No Is Question Mandatory : No Calculator : None Response Time : N.A Think Time : N.A Minimum Instruction Time : 0**

**Correct Marks : 5 Wrong Marks : 1**

**Question Key Details :**

Key	Value
Comprehension	MCQ

Which of the following is the dominant protein in cow-milk?

1. Albumin
2. Casein
3. Lactoglobulin
4. Englobulin

**Options :**

485584147453. 1  
485584147454. 2  
485584147455. 3  
485584147456. 4

**Question Number : 119 Question Id : 48558436864 Question Type : MCQ Option Shuffling : No Is Question Mandatory : No Calculator : None Response Time : N.A Think Time : N.A Minimum Instruction Time : 0**

**Correct Marks : 5 Wrong Marks : 1**

**Question Key Details :**

Key	Value
Comprehension	MCQ

गाय के दूध में निम्न में से कौन सा प्रोटीन प्रभावी है?

1. अलब्यूमिन
2. केसीन
3. लेक्टोग्लोब्यूलिन
4. यूग्लोब्यूलिन

**Options :**

485584147453. 1  
485584147454. 2  
485584147455. 3  
485584147456. 4

Question Number : 120 Question Id : 48558436865 Question Type : MCQ Option Shuffling : No Is Question Mandatory : No Calculator : None  
Response Time : N.A Think Time : N.A Minimum Instruction Time : 0

Correct Marks : 5 Wrong Marks : 1

Question Key Details :

Key	Value
Comprehension	MCQ

Which of the following is **not** a windbreak plant?

1. Jamun
2. Jackfruit
3. Moringa
4. Phalsa

Options :

485584147457. 1  
485584147458. 2  
485584147459. 3  
485584147460. 4

Question Number : 120 Question Id : 48558436865 Question Type : MCQ Option Shuffling : No Is Question Mandatory : No Calculator : None  
Response Time : N.A Think Time : N.A Minimum Instruction Time : 0

Correct Marks : 5 Wrong Marks : 1

Question Key Details :

Key	Value
Comprehension	MCQ

निम्न में से कौन सा वातरोध पादप नहीं है?

1. जामुन
2. कटहल
3. मोरिंगा
4. फालसा

Options :

485584147457. 1  
485584147458. 2  
485584147459. 3  
485584147460. 4

Question Number : 121 Question Id : 48558436866 Question Type : MCQ Option Shuffling : No Is Question Mandatory : No Calculator : None  
Response Time : N.A Think Time : N.A Minimum Instruction Time : 0

Correct Marks : 5 Wrong Marks : 1

Question Key Details :

Key	Value
Comprehension	MCQ

Which of following is not a grass species to make lawns?

1. *Cynodon intermedius*
2. *Poa annua*
3. *Dombeya spectabilis*
4. *Sporobolus tremulus*

**Options :**

485584147461. 1  
 485584147462. 2  
 485584147463. 3  
 485584147464. 4

Question Number : 121 Question Id : 48558436866 Question Type : MCQ Option Shuffling : No Is Question Mandatory : No Calculator : None  
 Response Time : N.A Think Time : N.A Minimum Instruction Time : 0

Correct Marks : 5 Wrong Marks : 1

**Question Key Details :**

Key	Value
Comprehension	MCQ

निम्न में से घास की कौन सी प्रजाति लॉन बनाने के लिए नहीं है?

1. साइनोडोन इंटरमीडियस
2. पोआ एनुआ
3. डोमबेया स्पेक्टैबिलिस
4. स्प्योरोबोलस ट्रूमूलस

**Options :**

485584147461. 1  
 485584147462. 2  
 485584147463. 3  
 485584147464. 4

Question Number : 122 Question Id : 48558436867 Question Type : MCQ Option Shuffling : No Is Question Mandatory : No Calculator : None  
 Response Time : N.A Think Time : N.A Minimum Instruction Time : 0

Correct Marks : 5 Wrong Marks : 1

**Question Key Details :**

Key	Value
Comprehension	MCQ

what is considered as a capacity of soil to provide essential nutrients in adequate amounts and in proper proportion for growth of plants, when other factors such as light, water temperature and physical condition of soil are favourable?

1. Soil productivity
2. Soil infertility
3. Soil Fertility
4. Soil Capacity

**Options :**

485584147465. 1  
 485584147466. 2  
 485584147467. 3  
 485584147468. 4

Question Number : 122 Question Id : 48558436867 Question Type : MCQ Option Shuffling : No Is Question Mandatory : No Calculator : None  
 Response Time : N.A Think Time : N.A Minimum Instruction Time : 0

Correct Marks : 5 Wrong Marks : 1

**Question Key Details :**

Key	Value
Comprehension	MCQ

अन्य कारकों जैसे प्रकाश, जल, तापमान तथा मृदा की भौतिक स्थिति के अनुकूल होने पर पौधे की वृद्धि के लिए पर्याप्त मात्रा में तथा उचित अनुपात में मृदा की आवश्यक पोषक तत्व प्रदान करने की क्षमता को क्या कहा जाता है?

1. मृदा उत्पादकता
2. मृदा अनुर्वरकता
3. मृदा उर्वरता
4. मृदा क्षमता

**Options :**

485584147465. 1  
485584147466. 2  
485584147467. 3  
485584147468. 4

**Question Number : 123 Question Id : 48558436868 Question Type : MCQ Option Shuffling : No Is Question Mandatory : No Calculator : None Response Time : N.A Think Time : N.A Minimum Instruction Time : 0**

**Correct Marks : 5 Wrong Marks : 1**

**Question Key Details :**

Key	Value
Comprehension	MCQ

Which of the following is a Phosphate Mobilizing Biofertilizer (PMBF)?

1. *Azospirillum*
2. *Pseudomonas*
3. *Azotobacter*
4. *Glomus*

**Options :**

485584147469. 1  
485584147470. 2  
485584147471. 3  
485584147472. 4

**Question Number : 123 Question Id : 48558436868 Question Type : MCQ Option Shuffling : No Is Question Mandatory : No Calculator : None Response Time : N.A Think Time : N.A Minimum Instruction Time : 0**

**Correct Marks : 5 Wrong Marks : 1**

**Question Key Details :**

Key	Value
Comprehension	MCQ

निम्न में से कौन सा फॉस्फेट चालन जैवउर्वरक (PMBF) है?

1. एज़ोस्फिरिलम
2. स्ट्रैटोमोनास
3. एज़ोटोबैक्टर
4. ग्लोमस

**Options :**

485584147469. 1  
485584147470. 2  
485584147471. 3  
485584147472. 4

Question Number : 124 Question Id : 48558436869 Question Type : MCQ Option Shuffling : No Is Question Mandatory : No Calculator : None  
Response Time : N.A Think Time : N.A Minimum Instruction Time : 0

Correct Marks : 5 Wrong Marks : 1

Question Key Details :

Key	Value
Comprehension	MCQ

What is the  $P_2O_5$  content of Single Super Phosphate ( SSP ) ?

1. 10%
2. 16%
3. 42.5%
4. 46%

Options :

485584147473. 1  
485584147474. 2  
485584147475. 3  
485584147476. 4

Question Number : 124 Question Id : 48558436869 Question Type : MCQ Option Shuffling : No Is Question Mandatory : No Calculator : None  
Response Time : N.A Think Time : N.A Minimum Instruction Time : 0

Correct Marks : 5 Wrong Marks : 1

Question Key Details :

Key	Value
Comprehension	MCQ

सिंगल सुपर फास्फेट ( एस. एस. बी.) में  $P_2O_5$  की कितनी मात्रा है ?

1. 10%
2. 16%
3. 42.5%
4. 46%

Options :

485584147473. 1  
485584147474. 2  
485584147475. 3  
485584147476. 4

Question Number : 125 Question Id : 48558436870 Question Type : MCQ Option Shuffling : No Is Question Mandatory : No Calculator : None  
Response Time : N.A Think Time : N.A Minimum Instruction Time : 0

Correct Marks : 5 Wrong Marks : 1

Question Key Details :

Key	Value
Comprehension	MCQ

What provide insurance against short duration drought during crop season?

1. Temperature
2. Fertilizer
3. Mannres
4. Irrigation



**Options :**

- 485584147477. 1
- 485584147478. 2
- 485584147479. 3
- 485584147480. 4

Question Number : 125 Question Id : 48558436870 Question Type : MCQ Option Shuffling : No Is Question Mandatory : No Calculator : None Response Time : N.A Think Time : N.A Minimum Instruction Time : 0

Correct Marks : 5 Wrong Marks : 1

**Question Key Details :**

Key	Value
Comprehension	MCQ

शस्य के समय में अत्यावधि के सूखे से निपटने के लिए कौन आरावृत्ति प्रदान करता है?

- 1. तापमान
- 2. उर्वरक
- 3. खाद
- 4. सिंचाई

**Options :**

- 485584147477. 1
- 485584147478. 2
- 485584147479. 3
- 485584147480. 4

Question Number : 126 Question Id : 48558436871 Question Type : MCQ Option Shuffling : No Is Question Mandatory : No Calculator : None Response Time : N.A Think Time : N.A Minimum Instruction Time : 0

Correct Marks : 5 Wrong Marks : 1

**Question Key Details :**

Key	Value
Comprehension	MCQ

Which are the critical growth stages for irrigation of the wheat crop?

- 1. Crown root initiation, tillering, flowering
- 2. Sprouting, maximum vegetation stage
- 3. Tasseling, Skilking
- 4. Pegging, Pod development

**Options :**

- 485584147481. 1
- 485584147482. 2
- 485584147483. 3
- 485584147484. 4

Question Number : 126 Question Id : 48558436871 Question Type : MCQ Option Shuffling : No Is Question Mandatory : No Calculator : None Response Time : N.A Think Time : N.A Minimum Instruction Time : 0

Correct Marks : 5 Wrong Marks : 1

**Question Key Details :**

Key	Value
Comprehension	MCQ

गेहूँ की फसल की सिंचाई के लिए कौन सी क्रांतिक वृद्धि अवस्थाएँ हैं?

1. शीर्षमूल प्रारम्भन, तल शाखन, पुष्पन
2. अंकुरण, अधिकतम वानस्पतिक अवस्था
3. वल्लरन, स्किलकिंग
4. पौर्णिमा, फली का विकास

**Options :**

485584147481. 1  
485584147482. 2  
485584147483. 3  
485584147484. 4

**Question Number : 127 Question Id : 48558436872 Question Type : MCQ Option Shuffling : No Is Question Mandatory : No Calculator : None Response Time : N.A Think Time : N.A Minimum Instruction Time : 0**

**Correct Marks : 5 Wrong Marks : 1**

**Question Key Details :**

Key	Value
Comprehension	MCQ

In which irrigation system water is allowed from channel to flood the entire field in an uncontrolled way?

1. Border strip
2. Ring and Basin
3. Wild Flooding
4. Furrow Method

**Options :**

485584147485. 1  
485584147486. 2  
485584147487. 3  
485584147488. 4

**Question Number : 127 Question Id : 48558436872 Question Type : MCQ Option Shuffling : No Is Question Mandatory : No Calculator : None Response Time : N.A Think Time : N.A Minimum Instruction Time : 0**

**Correct Marks : 5 Wrong Marks : 1**

**Question Key Details :**

Key	Value
Comprehension	MCQ

सिंचाई की किस प्रणाली में जल को चैनल से पूरे खेत में अनियंत्रित रूप से जाने दिया जाता है?

1. सीमांत स्ट्रिप
2. वयव तथा प्रोपी
3. अनियंत्रित आप्लावन
4. खांचा विधि

**Options :**

485584147485. 1  
485584147486. 2  
485584147487. 3  
485584147488. 4

Question Number : 128 Question Id : 48558436873 Question Type : MCQ Option Shuffling : No Is Question Mandatory : No Calculator : None Response Time : N.A Think Time : N.A Minimum Instruction Time : 0

Correct Marks : 5 Wrong Marks : 1

Question Key Details :

Key	Value
Comprehension	MCQ

What is the aim of integrated weed management?

1. To increase soil pollution
2. Minimizing the residue problem in plant, soil, air and water
3. To increase weedicide residue residence in plant
4. To contaminate water resources

Options :

485584147489. 1

485584147490. 2

485584147491. 3

485584147492. 4

Question Number : 128 Question Id : 48558436873 Question Type : MCQ Option Shuffling : No Is Question Mandatory : No Calculator : None Response Time : N.A Think Time : N.A Minimum Instruction Time : 0

Correct Marks : 5 Wrong Marks : 1

Question Key Details :

Key	Value
Comprehension	MCQ

एकीकृत अपतृण प्रबंधन का उद्देश्य क्या है?

1. मृदा प्रदूषण में वृद्धि करना
2. पादप, मृदा, वायु तथा जल में अवशिष्ट की समस्या को कम करना
3. पादप में अपतृणनाशी अवशिष्ट में वृद्धि करना
4. जल स्रोतों को संदूषित करना

Options :

485584147489. 1

485584147490. 2

485584147491. 3

485584147492. 4

Question Number : 129 Question Id : 48558436874 Question Type : MCQ Option Shuffling : No Is Question Mandatory : No Calculator : None Response Time : N.A Think Time : N.A Minimum Instruction Time : 0

Correct Marks : 5 Wrong Marks : 1

Question Key Details :

Key	Value
Comprehension	MCQ

Which of the following herbicide is **not** grouped under selective herbicide under recommended dose of application of selective herbicide

1. Butachlore
2. 2, 4-D
3. Paraquat
4. Simazine

**Options :**

- 485584147493. 1
- 485584147494. 2
- 485584147495. 3
- 485584147496. 4

Question Number : 129 Question Id : 48558436874 Question Type : MCQ Option Shuffling : No Is Question Mandatory : No Calculator : None  
Response Time : N.A Think Time : N.A Minimum Instruction Time : 0

Correct Marks : 5 Wrong Marks : 1

**Question Key Details :**

Key	Value
Comprehension	MCQ

निम्न में से कौन सा शाकनाशी अनुप्रयोग की अनुमोदित मात्रा के अंतर्गत चयनित शाकनाशी समूह में नहीं है?

- 1. ब्यूटाक्लोर
- 2. 2, 4- डी
- 3. पाराक्वेट
- 4. सिमेज़ीन

**Options :**

- 485584147493. 1
- 485584147494. 2
- 485584147495. 3
- 485584147496. 4

Question Number : 130 Question Id : 48558436875 Question Type : MCQ Option Shuffling : No Is Question Mandatory : No Calculator : None  
Response Time : N.A Think Time : N.A Minimum Instruction Time : 0

Correct Marks : 5 Wrong Marks : 1

**Question Key Details :**

Key	Value
Comprehension	MCQ

Which crop does not fall in the category of short-day plants ?

- 1. Moong
- 2. Maize
- 3. Soybeau
- 4. Wheat

**Options :**

- 485584147497. 1
- 485584147498. 2
- 485584147499. 3
- 485584147500. 4

Question Number : 130 Question Id : 48558436875 Question Type : MCQ Option Shuffling : No Is Question Mandatory : No Calculator : None  
Response Time : N.A Think Time : N.A Minimum Instruction Time : 0

Correct Marks : 5 Wrong Marks : 1

**Question Key Details :**

Key	Value
Comprehension	MCQ

निम्न में से कौन सी शस्य अल्प प्रदीप्तकाली पीधे की श्रेणी में नहीं आती?

1. मूँग
2. मखरग
3. सोयाबीन
4. गेहूँ

**Options :**

485584147497. 1  
485584147498. 2  
485584147499. 3  
485584147500. 4

**Question Number : 131 Question Id : 48558436876 Question Type : MCQ Option Shuffling : No Is Question Mandatory : No Calculator : None Response Time : N.A Think Time : N.A Minimum Instruction Time : 0**

**Correct Marks : 5 Wrong Marks : 1**

**Question Key Details :**

Key	Value
Comprehension	MCQ

Select the correct statements from the following .

- A. Pusa Nanha is a dioecious variety
- B. Papaya is tolerant to water stagnation
- C. Pusa Majesty is suitable for papain production
- D. Coorg Honeydew is gynodioecious variety

Choose the correct answer from the options given below:

1. A, B, D only
2. B, C, D only
3. A, C, D only
4. A, B, C only

**Options :**

485584147501. 1  
485584147502. 2  
485584147503. 3  
485584147504. 4

**Question Number : 131 Question Id : 48558436876 Question Type : MCQ Option Shuffling : No Is Question Mandatory : No Calculator : None Response Time : N.A Think Time : N.A Minimum Instruction Time : 0**

**Correct Marks : 5 Wrong Marks : 1**

**Question Key Details :**

Key	Value
Comprehension	MCQ

निम्न से सही कथनों का चयन करें।

- A. पूसा नन्हा एक एकलिंगाश्रयी नस्ल है।
- B. पपीता जल रुद्धता के प्रति सहनशील है।
- C. पूसा मैजेस्टी पपैन उत्पादन के लिए उपयुक्त है।
- D. कूर्ग हनीड्यू एक भिन्नस्थीभयस्त्रीलिंगी है।

नीचे दिए गए विकल्पों में से सही उत्तर चुनें:

- 1. केवल A, B, D
- 2. केवल B, C, D
- 3. केवल A, C, D
- 4. केवल A, B, C

**Options :**

- 485584147501. 1
- 485584147502. 2
- 485584147503. 3
- 485584147504. 4

**Question Number : 132 Question Id : 48558436877 Question Type : MCQ Option Shuffling : No Is Question Mandatory : No Calculator : None Response Time : N.A Think Time : N.A Minimum Instruction Time : 0**

**Correct Marks : 5 Wrong Marks : 1**

**Question Key Details :**

Key	Value
Comprehension	MCQ

Which is not a leguminous crop?

- 1. Dhaincha
- 2. Sunflower
- 3. Moong
- 4. Pigeon pea

**Options :**

- 485584147505. 1
- 485584147506. 2
- 485584147507. 3
- 485584147508. 4

**Question Number : 132 Question Id : 48558436877 Question Type : MCQ Option Shuffling : No Is Question Mandatory : No Calculator : None Response Time : N.A Think Time : N.A Minimum Instruction Time : 0**

**Correct Marks : 5 Wrong Marks : 1**

**Question Key Details :**

Key	Value
Comprehension	MCQ

निम्न में से कौन सी फली वाली शस्य नहीं है?

1. द्वैचा
2. सूरजमुखी
3. मूँग
4. अरहर

**Options :**

485584147505. 1  
485584147506. 2  
485584147507. 3  
485584147508. 4

**Question Number : 133 Question Id : 48558436878 Question Type : MCQ Option Shuffling : No Is Question Mandatory : No Calculator : None Response Time : N.A Think Time : N.A Minimum Instruction Time : 0**

**Correct Marks : 5 Wrong Marks : 1**

**Question Key Details :**

Key	Value
Comprehension	MCQ

Which of the following is **not** a milch purpose breed in India ?

- A. Sahiwal
- B. Gir
- C. Red Sindhi
- D. Tharparkar
- E. Deoni

Choose the correct answer from the option given below

1. A and B
2. E only
3. A only
4. C and D only

**Options :**

485584147509. 1  
485584147510. 2  
485584147511. 3  
485584147512. 4

**Question Number : 133 Question Id : 48558436878 Question Type : MCQ Option Shuffling : No Is Question Mandatory : No Calculator : None Response Time : N.A Think Time : N.A Minimum Instruction Time : 0**

**Correct Marks : 5 Wrong Marks : 1**

**Question Key Details :**

Key	Value
Comprehension	MCQ

निम्न में से भारत में कौन - सी नस्ल दुधारू प्रयोजन के लिए नहीं है ?

- A. साहीवाल
- B. गिर
- C. रेड सिन्धी
- D. थारपरकर
- E. दिओनी

नीचे दिए गए विकल्पों में से सही उत्तर चुनें.

1. केवल A और B
2. केवल E
3. केवल A
4. केवल C और D

**Options :**

- 485584147509. 1
- 485584147510. 2
- 485584147511. 3
- 485584147512. 4

**Question Number : 134 Question Id : 48558436879 Question Type : MCQ Option Shuffling : No Is Question Mandatory : No Calculator : None Response Time : N.A Think Time : N.A Minimum Instruction Time : 0**

**Correct Marks : 5 Wrong Marks : 1**

**Question Key Details :**

Key	Value
Comprehension	MCQ

Jam and Jelly are preserved by using sugar because of its:

1. Sweetness
2. Hygroscopic nature
3. Hydrophobic nature
4. Colour

**Options :**

- 485584147513. 1
- 485584147514. 2
- 485584147515. 3
- 485584147516. 4

**Question Number : 134 Question Id : 48558436879 Question Type : MCQ Option Shuffling : No Is Question Mandatory : No Calculator : None Response Time : N.A Think Time : N.A Minimum Instruction Time : 0**

**Correct Marks : 5 Wrong Marks : 1**

**Question Key Details :**

Key	Value
Comprehension	MCQ



शर्करा के कौन से गुण के कारण इसका उपयोग जैम तथा जैली के परिरक्षण में किया जाता है ?

1. मिठास
2. आर्द्रताग्राही प्रकृति
3. जलविरागी प्रकृति
4. रंग

**Options :**

485584147513. 1  
485584147514. 2  
485584147515. 3  
485584147516. 4

**Question Number : 135 Question Id : 48558436880 Question Type : MCQ Option Shuffling : No Is Question Mandatory : No Calculator : None Response Time : N.A Think Time : N.A Minimum Instruction Time : 0**

**Correct Marks : 5 Wrong Marks : 1**

**Question Key Details :**

Key	Value
Comprehension	MCQ

Fruit and vegetable pickles can be classified under which method of preservation?

1. Physical
2. Chemical
3. Fermentation
4. Biological

**Options :**

485584147517. 1  
485584147518. 2  
485584147519. 3  
485584147520. 4

**Question Number : 135 Question Id : 48558436880 Question Type : MCQ Option Shuffling : No Is Question Mandatory : No Calculator : None Response Time : N.A Think Time : N.A Minimum Instruction Time : 0**

**Correct Marks : 5 Wrong Marks : 1**

**Question Key Details :**

Key	Value
Comprehension	MCQ

फल तथा सब्जियों के अचारों को परिरक्षण की किस विधि के अंतर्गत वर्गीकृत किया जा सकता है?

1. भैतिक
2. रासायनिक
3. किण्वन
4. जैविक

**Options :**

485584147517. 1  
485584147518. 2  
485584147519. 3  
485584147520. 4

Question Number : 136 Question Id : 48558436881 Question Type : MCQ Option Shuffling : No Is Question Mandatory : No Calculator : None  
Response Time : N.A Think Time : N.A Minimum Instruction Time : 0

Correct Marks : 5 Wrong Marks : 1

Question Key Details :

Key	Value
Comprehension	MCQ

Which variety of mango is commonly used for processing?

1. Langara
2. Neelam
3. Totapuri
4. Chausa

Options :

485584147521. 1  
485584147522. 2  
485584147523. 3  
485584147524. 4

Question Number : 136 Question Id : 48558436881 Question Type : MCQ Option Shuffling : No Is Question Mandatory : No Calculator : None  
Response Time : N.A Think Time : N.A Minimum Instruction Time : 0

Correct Marks : 5 Wrong Marks : 1

Question Key Details :

Key	Value
Comprehension	MCQ

आम की किस किस्म को सामान्यतः प्रसंस्करण के लिए उपयोग में लाया जाता है?

1. लंगड़ा
2. नीलम
3. तोतापुरी
4. चौसा

Options :

485584147521. 1  
485584147522. 2  
485584147523. 3  
485584147524. 4

Question Number : 137 Question Id : 48558436882 Question Type : MCQ Option Shuffling : No Is Question Mandatory : No Calculator : None  
Response Time : N.A Think Time : N.A Minimum Instruction Time : 0

Correct Marks : 5 Wrong Marks : 1

Question Key Details :

Key	Value
Comprehension	MCQ

Match List I with List II

LIST I		LIST II	
A.	Radish	I.	Arka Nishant
B.	Carrot	II.	Agrifound Red
C.	Onion	III.	Pusa Rudhira
D.	Cabbage	IV.	Golden Acre

Choose the correct answer from the options given below:

1. A-I, B-III, C-II, D-IV
2. A-II, B-III, C-I, D-IV
3. A-I, B-III, C-IV, D-II
4. A-IV, B-I, C-III, D-II

Options :

485584147525. 1  
485584147526. 2  
485584147527. 3  
485584147528. 4

Question Number : 137 Question Id : 48558436882 Question Type : MCQ Option Shuffling : No Is Question Mandatory : No Calculator : None Response Time : N.A Think Time : N.A Minimum Instruction Time : 0

Correct Marks : 5 Wrong Marks : 1

Question Key Details :

Key	Value
Comprehension	MCQ

सूची I का सूची II से मिलान कीजिए

सूची I	सूची II
A. मूली	I. अर्का निशान्त
B. गाजर	II. एग्रिफाउंड रेड
C. प्याज	III. पुसा रुधिरा
D. बंदगोभी	IV. गोल्डन एकर

निम्नलिखित विकल्पों में से सही उत्तर का चयन कीजिए :

1. A-I, B-III, C-II, D-IV
2. A-II, B-III, C-I, D-IV
3. A-I, B-III, C-IV, D-II
4. A-IV, B-I, C-III, D-II

Options :

485584147525. 1  
485584147526. 2  
485584147527. 3  
485584147528. 4

Question Number : 138 Question Id : 48558436883 Question Type : MCQ Option Shuffling : No Is Question Mandatory : No Calculator : None Response Time : N.A Think Time : N.A Minimum Instruction Time : 0

Correct Marks : 5 Wrong Marks : 1

Question Key Details :

Key	Value
Comprehension	MCQ

Medicinal use of malic acid is undertaken in which of the following disorder?

1. Renal Failure
2. Throat disorders
3. Brain disorders
4. Intestinal disorders

**Options :**

485584147529. 1  
485584147530. 2  
485584147531. 3  
485584147532. 4

**Question Number : 138 Question Id : 48558436883 Question Type : MCQ Option Shuffling : No Is Question Mandatory : No Calculator : None Response Time : N.A Think Time : N.A Minimum Instruction Time : 0**

**Correct Marks : 5 Wrong Marks : 1**

**Question Key Details :**

Key	Value
Comprehension	MCQ

मैलिक अम्ल का औषधीय उपयोग निम्न में से खून से विकार में किया जाता है ?

1. त्वक क्षय
2. गले के विकार
3. मस्तिष्क विकार
4. आंत्र विकार

**Options :**

485584147529. 1  
485584147530. 2  
485584147531. 3  
485584147532. 4

**Question Number : 139 Question Id : 48558436884 Question Type : MCQ Option Shuffling : No Is Question Mandatory : No Calculator : None Response Time : N.A Think Time : N.A Minimum Instruction Time : 0**

**Correct Marks : 5 Wrong Marks : 1**

**Question Key Details :**

Key	Value
Comprehension	MCQ

Most ideal temperature for tuber formation in potato is \_\_\_\_\_ °C.

1. 15
2. 12
3. 17
4. 25

**Options :**

485584147533. 1  
485584147534. 2  
485584147535. 3  
485584147536. 4

Question Number : 139 Question Id : 48558436884 Question Type : MCQ Option Shuffling : No Is Question Mandatory : No Calculator : None  
Response Time : N.A Think Time : N.A Minimum Instruction Time : 0

Correct Marks : 5 Wrong Marks : 1

Question Key Details :

Key	Value
Comprehension	MCQ

आलू में प्रकंद निर्माण के लिए सर्वाधिक आदर्श तापमान \_\_\_\_\_ °C है

1. 15
2. 12
3. 17
4. 25

Options :

- 485584147533. 1
- 485584147534. 2
- 485584147535. 3
- 485584147536. 4

Question Number : 140 Question Id : 48558436885 Question Type : MCQ Option Shuffling : No Is Question Mandatory : No Calculator : None  
Response Time : N.A Think Time : N.A Minimum Instruction Time : 0

Correct Marks : 5 Wrong Marks : 1

Question Key Details :

Key	Value
Comprehension	MCQ

Identify the dioecious variety of papaya.

1. Pusa Dwarf
2. Arka Prabhat
3. Pusa Mejesty
4. Pusa Delicious

Options :

- 485584147537. 1
- 485584147538. 2
- 485584147539. 3
- 485584147540. 4

Question Number : 140 Question Id : 48558436885 Question Type : MCQ Option Shuffling : No Is Question Mandatory : No Calculator : None  
Response Time : N.A Think Time : N.A Minimum Instruction Time : 0

Correct Marks : 5 Wrong Marks : 1

Question Key Details :

Key	Value
Comprehension	MCQ

पपीते की एकलिंगाश्रयी किस्म को पहचानें।

1. पूसा ड्वार्फ
2. अर्क प्रभाथ
3. पूसा मेजेस्टी
4. पूसा डिलीशियस

**Options :**

485584147537. 1  
 485584147538. 2  
 485584147539. 3  
 485584147540. 4

**Sub-Section Number :** 2  
**Sub-Section Id :** 4855842790  
**Question Shuffling Allowed :** No  
**Is Section Default? :** null

**Question Number : 141 Question Id : 48558436886 Question Type : MCQ Option Shuffling : No Is Question Mandatory : No Calculator : None Response Time : N.A Think Time : N.A Minimum Instruction Time : 0**

**Correct Marks : 5 Wrong Marks : 1**

**Question Key Details :**

Key	Value
Comprehension	Comp1

Read the given passage and attempt question.

Cropping system is an important component of farming system. From the farm organization point of view, a system consists of several components depending on each other it is defined as a set of components which are inter related and interacting among themselves. The available technology determines their makeup. Farming system consists of several enterprises with appropriate combination like cropping system, dairying, poultry, fishery, bee keeping, etc. These enterprises are interrelated. The end products and wastes of one enterprise are used as inputs in others. The wastes of dairying like dung, urine, refuse, etc. are used in preparation of farm yard manure which is an input in cropping system. The straw obtained from the crops is used as fodder for cattle. Cattle are used in different field operations for growing crops. Thus, different enterprises in farming system are highly interrelated.

Which is an important component of farming system?

1. Poultry
2. Cropping System
3. Piggery
4. Forage crop Production

**Options :**

485584147541. 1  
 485584147542. 2  
 485584147543. 3  
 485584147544. 4

**Question Number : 141 Question Id : 48558436886 Question Type : MCQ Option Shuffling : No Is Question Mandatory : No Calculator : None Response Time : N.A Think Time : N.A Minimum Instruction Time : 0**

**Correct Marks : 5 Wrong Marks : 1**

**Question Key Details :**

Key	Value
Comprehension	Comp1

नीचे दिए गए अनुच्छेद को पढ़ें तथा प्रश्न के उत्तर दें।

शस्य प्रणाली, कृषि प्रणाली का एक महत्वपूर्ण घटक है। फार्म की व्यवस्था के दृष्टिकोण से, एक प्रणाली कई घटकों से मिलकर बनती है जो एक दूसरे पर निर्भर करते हैं। इन्हें 'घटकों का एक समूह' कहा जाता है जो अंतर्संबंधी है तथा आपस में अंतःक्रिया करते हैं। प्राप्त तकनीक उनकी बनावट का निर्धारण करती है। कृषि प्रणाली उचित संयोजनों के साथ कई उद्यमों से मिलकर बनी है जैसे शस्य प्रणाली, डेयरी, कुक्कुट, मत्स्य, मधुमक्खी पालन आदि। ये सभी उद्यम अंतर्संबंधी हैं। एक उद्यम से प्राप्त होने वाले अंतिम उत्पाद तथा अपशिष्ट को अन्य उद्यमों में लागत के रूप में उपयोग में लाया जाता है। गोबर, मूत्र तथा उत्सर्ज आदि डेयरी अपशिष्ट को फार्म यार्ड खाद बनाने के लिए उपयोग में लाया जाता है, जो शस्य प्रणाली के लिए आगत है। शस्य से प्राप्त होने वाली भूसी को पशुओं के चारे के रूप में उपयोग में लाया जाता है। शस्य उगाने के लिए पशुओं को खेत की विभिन्न सक्रियाओं के लिए उपयोग में लाया जाता है। कृषि प्रणाली में विभिन्न उद्यम उच्च रूप से अंतर्संबंधी हैं।

निम्न से कृषि प्रणाली का कौन सा एक महत्वपूर्ण घटक है?

1. कुक्कुट
2. शस्य प्रणाली
3. सूअर-बाड़ा
4. चारे के लिए फसल उत्पादन

Options :

485584147541. 1  
485584147542. 2  
485584147543. 3  
485584147544. 4

Question Number : 142 Question Id : 48558436887 Question Type : MCQ Option Shuffling : No Is Question Mandatory : No Calculator : None Response Time : N.A Think Time : N.A Minimum Instruction Time : 0

Correct Marks : 5 Wrong Marks : 1

Question Key Details :

Key	Value
Comprehension	Comp1

Read the given passage and attempt question.

Cropping system is an important component of farming system. From the farm organization point of view, a system consists of several components depending on each other it is defined as a set of components which are inter related and interacting among themselves. The available technology determines their makeup. Farming system consists of several enterprises with appropriate combination like cropping system, dairying, poultry, fishery, bee keeping, etc. These enterprises are interrelated. The end products and wastes of one enterprise are used as inputs in others. The wastes of dairying like dung, urine, refuse, etc. are used in preparation of farm yard manure which is an input in cropping system. The straw obtained from the crops is used as fodder for cattle. Cattle are used in different field operations for growing crops. Thus, different enterprises in farming system are highly interrelated.

Wastes of dairying industry includes which of the following ?

- A. Concentrate
- B. Dung
- C. Milk
- D. Urine

Choose the correct answer from the options given below:

- 1. A and B
- 2. A and C only
- 3. B and D only
- 4. C and D only

Options :

- 485584147545. 1
- 485584147546. 2
- 485584147547. 3
- 485584147548. 4

Question Number : 142 Question Id : 48558436887 Question Type : MCQ Option Shuffling : No Is Question Mandatory : No Calculator : None Response Time : N.A Think Time : N.A Minimum Instruction Time : 0

Correct Marks : 5 Wrong Marks : 1

Question Key Details :

Key	Value
Comprehension	Compl

नीचे दिए गए अनुच्छेद को पढ़ें तथा प्रश्न के उत्तर दें।

शस्य प्रणाली, कृषि प्रणाली का एक महत्वपूर्ण घटक है। फार्म की व्यवस्था के दृष्टिकोण से, एक प्रणाली कई घटकों से मिलकर बनती है जो एक दूसरे पर निर्भर करते हैं। इन्हें 'घटकों का एक समूह' कहा जाता है जो अंतर्संबंधी है तथा आपस में अंतःक्रिया करते हैं। प्राप्त तकनीक उनकी बनावट का निर्धारण करती है। कृषि प्रणाली उचित संयोजनों के साथ कई उद्यमों से मिलकर बनी है जैसे शस्य प्रणाली, डेयरी, कुक्कुट, मत्स्य, मधुमक्खी पालन आदि। ये सभी उद्यम अंतर्संबंधी हैं। एक उद्यम से प्राप्त होने वाले अंतिम उत्पाद तथा अपशिष्ट को अन्य उद्यमों में लागत के रूप में उपयोग में लाया जाता है। गोबर, मूत्र तथा उत्सर्ज आदि डेयरी अपशिष्ट को फार्म यार्ड खाद बनाने के लिए उपयोग में लाया जाता है, जो शस्य प्रणाली के लिए आगत है। शस्य से प्राप्त होने वाली भूसी को पशुओं के चारे के रूप में उपयोग में लाया जाता है। शस्य उगाने के लिए पशुओं को खेत की विभिन्न संक्रियाओं के लिए उपयोग में लाया जाता है। कृषि प्रणाली में विभिन्न उद्यम उच्च रूप से अंतर्संबंधी हैं।

डेयरी उद्योग के अपशिष्ट में निम्न में से कौन सम्मिलित है?

- A. सोदक
- B. गोबर
- C. दूध
- D. मूत्र

नीचे दिए गए विकल्पों में से सही उत्तर चुनें:

- 1. केवल A और B
- 2. केवल A और C
- 3. केवल B और D
- 4. केवल C और D

Options :



485584147545. 1  
485584147546. 2  
485584147547. 3  
485584147548. 4

Question Number : 143 Question Id : 48558436888 Question Type : MCQ Option Shuffling : No Is Question Mandatory : No Calculator : None  
Response Time : N.A Think Time : N.A Minimum Instruction Time : 0

Correct Marks : 5 Wrong Marks : 1

Question Key Details :

Key	Value
Comprehension	Comp1

Read the given passage and attempt question.

Cropping system is an important component of farming system. From the farm organization point of view, a system consists of several components depending on each other it is defined as a set of components which are inter related and interacting among themselves. The available technology determines their makeup. Farming system consists of several enterprises with appropriate combination like cropping system, dairying, poultry, fishery, bee keeping, etc. These enterprises are interrelated. The end products and wastes of one enterprise are used as inputs in others. The wastes of dairying like dung, urine, refuse, etc. are used in preparation of farm yard manure which is an input in cropping system. The straw obtained from the crops is used as fodder for cattle. Cattle are used in different field operations for growing crops. Thus, different enterprises in farming system are highly interrelated.

Which of the following is **not** the enterprise of farming system?

1. Dairying
2. Beekeeping
3. Poultry
4. E-waste processing

Options :

485584147549. 1  
485584147550. 2  
485584147551. 3  
485584147552. 4

Question Number : 143 Question Id : 48558436888 Question Type : MCQ Option Shuffling : No Is Question Mandatory : No Calculator : None  
Response Time : N.A Think Time : N.A Minimum Instruction Time : 0

Correct Marks : 5 Wrong Marks : 1

Question Key Details :

Key	Value
Comprehension	Comp1

नीचे दिए गए अनुच्छेद को पढ़ें तथा प्रश्न के उत्तर दें।

शस्य प्रणाली, कृषि प्रणाली का एक महत्वपूर्ण घटक है। फार्म की व्यवस्था के दृष्टिकोण से, एक प्रणाली कई घटकों से मिलकर बनती है जो एक दूसरे पर निर्भर करते हैं। इन्हें 'घटकों का एक समूह' कहा जाता है जो अंतर्संबंधी है तथा आपस में अंतःक्रिया करते हैं। प्राप्त तकनीक उनकी बनावट का निर्धारण करती है। कृषि प्रणाली उचित संयोजनों के साथ कई उद्यमों से मिलकर बनी है जैसे शस्य प्रणाली, डेयरी, कुक्कुट, मत्स्य, मधुमक्खी पालन आदि। ये सभी उद्यम अंतर्संबंधी हैं। एक उद्यम से प्राप्त होने वाले अंतिम उत्पाद तथा अपशिष्ट को अन्य उद्यमों में लागत के रूप में उपयोग में लाया जाता है। गोबर, मूत्र तथा उत्सर्ज आदि डेयरी अपशिष्ट को फार्म यार्ड खाद बनाने के लिए उपयोग में लाया जाता है, जो शस्य प्रणाली के लिए आगत है। शस्य से प्राप्त होने वाली भूसी को पशुओं के चारे के रूप में उपयोग में लाया जाता है। शस्य उगाने के लिए पशुओं को खेत की विभिन्न संक्रियाओं के लिए उपयोग में लाया जाता है। कृषि प्रणाली में विभिन्न उद्यम उच्च रूप से अंतर्संबंधी हैं।

निम्न में से कौन सा उद्यम कृषि प्रणाली के अंतर्गत नहीं आता?

1. डेयरी
2. मधुमक्खी पालन
3. कुक्कुट पालन
4. ई-अपशिष्ट प्रसंस्करण

**Options :**

485584147549. 1  
485584147550. 2  
485584147551. 3  
485584147552. 4

**Question Number : 144 Question Id : 48558436889 Question Type : MCQ Option Shuffling : No Is Question Mandatory : No Calculator : None Response Time : N.A Think Time : N.A Minimum Instruction Time : 0**

**Correct Marks : 5 Wrong Marks : 1**

**Question Key Details :**

Key	Value
Comprehension	Compl

Read the given passage and attempt question.

Cropping system is an important component of farming system. From the farm organization point of view, a system consists of several components depending on each other it is defined as a set of components which are inter related and interacting among themselves. The available technology determines their makeup. Farming system consists of several enterprises with appropriate combination like cropping system, dairying, poultry, fishery, bee keeping, etc. These enterprises are interrelated. The end products and wastes of one enterprise are used as inputs in others. The wastes of dairying like dung, urine, refuse, etc. are used in preparation of farm yard manure which is an input in cropping system. The straw obtained from the crops is used as fodder for cattle. Cattle are used in different field operations for growing crops. Thus, different enterprises in farming system are highly interrelated.

What is prepared from the wastes of dairying which is used as an input in cropping system?

1. Dung
2. Urine
3. Farmyard manure
4. Refuse

**Options :**

485584147553. 1  
485584147554. 2  
485584147555. 3  
485584147556. 4

**Question Number : 144 Question Id : 48558436889 Question Type : MCQ Option Shuffling : No Is Question Mandatory : No Calculator : None Response Time : N.A Think Time : N.A Minimum Instruction Time : 0**

**Correct Marks : 5 Wrong Marks : 1**

**Question Key Details :**

Key	Value
Comprehension	Compl

नीचे दिए गए अनुच्छेद को पढ़ें तथा प्रश्न के उत्तर दें।

शस्य प्रणाली, कृषि प्रणाली का एक महत्वपूर्ण घटक है। फार्म की व्यवस्था के दृष्टिकोण से, एक प्रणाली कई घटकों से मिलकर बनती है जो एक दूसरे पर निर्भर करते हैं। इन्हें 'घटकों का एक समूह' कहा जाता है जो अंतर्संबंधी है तथा आपस में अंतःक्रिया करते हैं। प्राप्त तकनीक उनकी बनावट का निर्धारण करती है। कृषि प्रणाली उचित संयोजनों के साथ कई उद्यमों से मिलकर बनी है जैसे शस्य प्रणाली, डेयरी, कुक्कुट, मत्स्य, मधुमक्खी पालन आदि। ये सभी उद्यम अंतर्संबंधी हैं। एक उद्यम से प्राप्त होने वाले अंतिम उत्पाद तथा अपशिष्ट को अन्य उद्यमों में लागत के रूप में उपयोग में लाया जाता है। गोबर, मूत्र तथा उत्सर्ज आदि डेयरी अपशिष्ट को फार्म यार्ड खाद बनाने के लिए उपयोग में लाया जाता है, जो शस्य प्रणाली के लिए आगत है। शस्य से प्राप्त होने वाली भूसी को पशुओं के चारे के रूप में उपयोग में लाया जाता है। शस्य उगाने के लिए पशुओं को खेत की विभिन्न सक्रियाओं के लिए उपयोग में लाया जाता है। कृषि प्रणाली में विभिन्न उद्यम उच्च रूप से अंतर्संबंधी हैं।

डेयरी अपशिष्ट से क्या बनाया जाता है जो शस्य प्रणाली में निवेश के लिए उपयोग किया जाता है?

1. गोबर
2. मूत्र
3. फार्म यार्ड खाद
4. उत्सर्ज

Options :

485584147553. 1  
485584147554. 2  
485584147555. 3  
485584147556. 4

Question Number : 145 Question Id : 48558436890 Question Type : MCQ Option Shuffling : No Is Question Mandatory : No Calculator : None Response Time : N.A Think Time : N.A Minimum Instruction Time : 0

Correct Marks : 5 Wrong Marks : 1

Question Key Details :

Key	Value
Comprehension	Comp1

Read the given passage and attempt question.

Cropping system is an important component of farming system. From the farm organization point of view, a system consists of several components depending on each other it is defined as a set of components which are inter related and interacting among themselves. The available technology determines their makeup. Farming system consists of several enterprises with appropriate combination like cropping system, dairying, poultry, fishery, bee keeping, etc. These enterprises are interrelated. The end products and wastes of one enterprise are used as inputs in others. The wastes of dairying like dung, urine, refuse, etc. are used in preparation of farm yard manure which is an input in cropping system. The straw obtained from the crops is used as fodder for cattle. Cattle are used in different field operations for growing crops. Thus, different enterprises in farming system are highly interrelated.

What represents an appropriate combination of farm enterprises viz. livestock poultry, forestry and fisheries?

1. Cropping System
2. Farming System
3. Multiple System
4. Multitier System

Options :

485584147557. 1  
485584147558. 2  
485584147559. 3  
485584147560. 4

Question Number : 145 Question Id : 48558436890 Question Type : MCQ Option Shuffling : No Is Question Mandatory : No Calculator : None  
Response Time : N.A Think Time : N.A Minimum Instruction Time : 0

Correct Marks : 5 Wrong Marks : 1

Question Key Details :

Key	Value
Comprehension	Comp1

नीचे दिए गए अनुच्छेद को पढ़ें तथा प्रश्न के उत्तर दें।

शस्य प्रणाली, कृषि प्रणाली का एक महत्वपूर्ण घटक है। फार्म की व्यवस्था के दृष्टिकोण से, एक प्रणाली कई घटकों से मिलकर बनती है जो एक दूसरे पर निर्भर करते हैं। इन्हें 'घटकों का एक समूह' कहा जाता है जो अंतर्संबंधी है तथा आपस में अंतःक्रिया करते हैं। प्राप्त तकनीक उनकी बनावट का निर्धारण करती है। कृषि प्रणाली उचित संयोजनों के साथ कई उद्यमों से मिलकर बनी है जैसे शस्य प्रणाली, डेयरी, कुक्कुट, मत्स्य, मधुमक्खी पालन आदि। ये सभी उद्यम अंतर्संबंधी हैं। एक उद्यम से प्राप्त होने वाले अंतिम उत्पाद तथा अपशिष्ट को अन्य उद्यमों में लागत के रूप में उपयोग में लाया जाता है। गोबर, मूत्र तथा उत्सर्ज आदि डेयरी अपशिष्ट को फार्म यार्ड खाद बनाने के लिए उपयोग में लाया जाता है, जो शस्य प्रणाली के लिए आगत है। शस्य से प्राप्त होने वाली भूसी को पशुओं के चारे के रूप में उपयोग में लाया जाता है। शस्य उगाने के लिए पशुओं को खेत की विभिन्न सक्रियाओं के लिए उपयोग में लाया जाता है। कृषि प्रणाली में विभिन्न उद्यम उच्च रूप से अंतर्संबंधी हैं।

निम्न में से कौन सा कृषि उद्यम के एक उचित संयोजन का प्रतिनिधित्व करता है जैसे पशुधन, कुक्कुट, वनविद्या और मत्स्य।

1. शस्य प्रणाली
2. कृषि प्रणाली
3. बहु प्रणाली
4. बहु-स्तरीय प्रणाली

Options :

485584147557. 1  
485584147558. 2  
485584147559. 3  
485584147560. 4

Sub-Section Number :

3

Sub-Section Id :

4855842791

Question Shuffling Allowed :

No

Is Section Default? :

null

Question Number : 146 Question Id : 48558436891 Question Type : MCQ Option Shuffling : No Is Question Mandatory : No Calculator : None  
Response Time : N.A Think Time : N.A Minimum Instruction Time : 0

Correct Marks : 5 Wrong Marks : 1

Question Key Details :

Key	Value
Comprehension	Comp2

Read the given passage and answer question.

The farmers in India have to face much difficulty in arranging short term funds for the planting and harvesting season and to meet other agricultural needs. They are largely dependent on credit from the unorganized sector such as money lenders who charge exorbitant rate of interest. Realizing the need for such short-term credit, the kisan credit card scheme was launched by the Reserve Bank of India and NABARD. Kisan credit card is offered by commercial banks, regional rural banks and co-operative banks. The kisan credit card is a credit scheme introduced in August 1998 by Indian banks. The model scheme was prepared by the National Bank for Agriculture and Rural Development (NABARD) on the recommendation of R. V. Gupta committee to provide term loans and agricultural needs.

A kisan credit card works in similar ways as a normal credit card. You can use it at ATMs and merchant post terminals. Under the kisan credit card scheme, customer can avail two types of credit i.e. cash credit and term loans. A short term credit limit is offered on the kisan credit card for smaller agricultural needs. Term loan can also be taken for cultivation, buying equipment, irrigation, etc. Card holders can use the kisan credit card for certain domestic needs as well.

The farmers also receive a passbook which contains all the relevant details of land holding, credit limit, validity, etc. The repayment period in kisan credit card is upto the maximum of 12 months and card is valid for a period between 3-5 years.

Who launched kisan credit card scheme?

1. Reserve Bank of India and NABARD
2. Prime Minister of India
3. Life Insurance Company
4. Crop Insurance Company

**Options :**

485584147561. 1  
485584147562. 2  
485584147563. 3  
485584147564. 4

**Question Number : 146 Question Id : 48558436891 Question Type : MCQ Option Shuffling : No Is Question Mandatory : No Calculator : None Response Time : N.A Think Time : N.A Minimum Instruction Time : 0**

**Correct Marks : 5 Wrong Marks : 1**

**Question Key Details :**

Key	Value
Comprehension	Comp2

नीचे दिए गए अनुच्छेद को ध्यान से पढ़ें तथा प्रश्नों के उत्तर दें।

भारत में किसानों को बुवाई और कटाई के समय तथा कृषि संबंधित अन्य आवश्यकताओं को पूरा करने के लिए अल्पावधि धन की व्यवस्था करने के लिए काफ़ी कठिनाई का सामना करना पड़ता है। वे अधिकतर असंघटित क्षेत्र जैसे साहूकारों से ऋण लेने के लिए निर्भर करते हैं, जो उनसे ब्याज की अमर्यादित दर की मांग करते हैं। ऐसे अल्पावधि ऋण की आवश्यकता को देखते हुए नाबार्ड तथा भारतीय रिज़र्व बैंक द्वारा किसान ऋण पत्र की योजना को प्रारम्भ किया गया। यह किसान ऋण पत्र व्यावसायिक बैंकों, क्षेत्रीय ग्रामीण बैंकों तथा सहकारी बैंकों द्वारा प्रस्तुत किया गया।

किसान ऋण पत्र एक ऐसी ऋण योजना है जिसे भारतीय बैंकों ने अगस्त 1998 में प्रस्तावित किया। आदर्श योजना, राष्ट्रीय कृषि तथा ग्रामीण विकास बैंक (नाबार्ड) द्वारा आर.वी. गुप्ता समिति के प्रस्तावों पर सत्रीय ऋण देने तथा कृषि संबंधी आवश्यकताओं को पूरा करने के लिए तैयार की गई।

किसान ऋण पत्र किसी सामान्य ऋण पत्र की तरह ही कार्य करता है। आप इसे ए. टी. एम. पर तथा वणिज स्थल टर्मिनल पर उपयोग में ला सकते हैं। किसान ऋण पत्र योजना के अंतर्गत, ग्राहक दो प्रकार के ऋणों को प्राप्त कर सकता है अर्थात् नकद ऋण तथा सत्रीय ऋण। कृषि संबंधी छोटी आवश्यकताओं के लिए किसान ऋण पत्र द्वारा अल्पावधि ऋण सीमा प्रस्तावित की गई है। सत्रीय ऋण कर्षण, उपकरण खरीदने, सिंचाई आदि के लिए भी लिया जा सकता है। पत्र धारक इस ऋण पत्र को किन्हीं घरेलू आवश्यकताओं की पूर्ति के लिए उपयोग में ला सकता है। किसान को एक पास बुक भी दी जाती है जिसमें भूमि के टुकड़े, ऋण सीमा तथा वैधता आदि के विषय में सभी महत्वपूर्ण विवरण दिए होते हैं। किसान ऋण की वापसी की अवधि अधिकतम 12 महीनों तक होती है तथा यह पत्र 3-5 वर्षों की अवधि के लिए वैध होता है।

किसान ऋण पत्र योजना को किसने प्रारम्भ किया?

1. भारतीय रिज़र्व बैंक तथा नाबार्ड
2. भारत के प्रधान मंत्री द्वारा
3. जीवन बीमा कंपनी
4. शस्य बीमा कंपनी

**Options :**

485584147561. 1  
485584147562. 2  
485584147563. 3  
485584147564. 4

**Question Number : 147 Question Id : 48558436892 Question Type : MCQ Option Shuffling : No Is Question Mandatory : No Calculator : None Response Time : N.A Think Time : N.A Minimum Instruction Time : 0**

**Correct Marks : 5 Wrong Marks : 1**

**Question Key Details :**

Key	Value
Comprehension	Comp2

Read the given passage and answer question.

The farmers in India have to face much difficulty in arranging short term funds for the planting and harvesting season and to meet other agricultural needs. They are largely dependent on credit from the unorganized sector such as money lenders who charge exorbitant rate of interest. Realizing the need for such short-term credit, the kisan credit card scheme was launched by the Reserve Bank of India and NABARD. Kisan credit card is offered by commercial banks, regional rural banks and co-operative banks. The kisan credit card is a credit scheme introduced in August 1998 by Indian banks. The model scheme was prepared by the National Bank for Agriculture and Rural Development (NABARD) on the recommendation of R. V. Gupta committee to provide term loans and agricultural needs.

A kisan credit card works in similar ways as a normal credit card. You can use it at ATMs and merchant post terminals. Under the kisan credit card scheme, customer can avail two types of credit i.e. cash credit and term loans. A short term credit limit is offered on the kisan credit card for smaller agricultural needs. Term loan can also be taken for cultivation, buying equipment, irrigation, etc. Card holders can use the kisan credit card for certain domestic needs as well.

The farmers also receive a passbook which contains all the relevant details of land holding, credit limit, validity, etc. The repayment period in kisan credit card is upto the maximum of 12 months and card is valid for a period between 3-5 years.

Kisan credit card scheme was introduced in :

1. August - 1990
2. January - 1992
3. August - 1998
4. December - 2000

**Options :**

- 485584147565. 1
- 485584147566. 2
- 485584147567. 3
- 485584147568. 4

**Question Number : 147 Question Id : 48558436892 Question Type : MCQ Option Shuffling : No Is Question Mandatory : No Calculator : None Response Time : N.A Think Time : N.A Minimum Instruction Time : 0**

**Correct Marks : 5 Wrong Marks : 1**

**Question Key Details :**

Key	Value
Comprehension	Comp2

नीचे दिए गए अनुच्छेद को ध्यान से पढ़ें तथा प्रश्नों के उत्तर दें।

भारत में किसानों को बुवाई और कटाई के समय तथा कृषि संबंधित अन्य आवश्यकताओं को पूरा करने के लिए अल्पावधि धन की व्यवस्था करने के लिए काफ़ी कठिनाई का सामना करना पड़ता है। वे अधिकतर असंघटित क्षेत्र जैसे साहूकारों से ऋण लेने के लिए निर्भर करते हैं, जो उनसे ब्याज की अमर्यादित दर की मांग करते हैं। ऐसे अल्पावधि ऋण की आवश्यकता को देखते हुए नाबार्ड तथा भारतीय रिज़र्व बैंक द्वारा किसान ऋण पत्र की योजना को प्रारम्भ किया गया। यह किसान ऋण पत्र व्यावसायिक बैंकों, क्षेत्रीय प्रामीण बैंकों तथा सहकारी बैंकों द्वारा प्रस्तुत किया गया।

किसान ऋण पत्र एक ऐसी ऋण योजना है जिसे भारतीय बैंकों ने अगस्त 1998 में प्रस्तावित किया। आदर्श योजना, राष्ट्रीय कृषि तथा ग्रामीण विकास बैंक (नाबार्ड) द्वारा आर.वी. गुप्ता समिति के प्रस्तावों पर सत्रीय ऋण देने तथा कृषि संबंधी आवश्यकताओं को पूरा करने के लिए तैयार की गई।

किसान ऋण पत्र किसी सामान्य ऋण पत्र की तरह ही कार्य करता है। आप इसे ए. टी. एम. पर तथा वणिज स्थल टर्मिनल पर उपयोग में ला सकते हैं। किसान ऋण पत्र योजना के अंतर्गत, ग्राहक दो प्रकार के ऋणों को प्राप्त कर सकता है अर्थात् नकद ऋण तथा सत्रीय ऋण। कृषि संबंधी छोटी आवश्यकताओं के लिए किसान ऋण पत्र द्वारा अल्पावधि ऋण सीमा प्रस्तावित की गई है। सत्रीय ऋण कर्षण, उपकरण खरीदने, सिंचाई आदि के लिए भी लिया जा सकता है। पत्र धारक इस ऋण पत्र को किन्हीं घरेलू आवश्यकताओं की पूर्ति के लिए उपयोग में ला सकता है। किसान को एक पास बुक भी दी जाती है जिसमें भूमि के टुकड़े, ऋण सीमा तथा वैधता आदि के विषय में सभी महत्वपूर्ण विवरण दिए होते हैं। किसान ऋण की वापसी की अवधि अधिकतम 12 महीनों तक होती है तथा यह पत्र 3-5 वर्षों की अवधि के लिए वैध होता है।

किसान ऋण पत्र योजना को \_\_\_\_\_ में प्रारम्भ किया गया।

1. अगस्त 1990
2. जनवरी 1992
3. अगस्त 1998
4. दिसम्बर 2000

**Options :**

485584147565. 1
485584147566. 2
485584147567. 3
485584147568. 4

**Question Number : 148 Question Id : 48558436893 Question Type : MCQ Option Shuffling : No Is Question Mandatory : No Calculator : None Response Time : N.A Think Time : N.A Minimum Instruction Time : 0**

**Correct Marks : 5 Wrong Marks : 1**

**Question Key Details :**

Key	Value
Comprehension	Comp2



Read the given passage and answer question.

The farmers in India have to face much difficulty in arranging short term funds for the planting and harvesting season and to meet other agricultural needs. They are largely dependent on credit from the unorganized sector such as money lenders who charge exorbitant rate of interest. Realizing the need for such short-term credit, the kisan credit card scheme was launched by the Reserve Bank of India and NABARD. Kisan credit card is offered by commercial banks, regional rural banks and co-operative banks. The kisan credit card is a credit scheme introduced in August 1998 by Indian banks. The model scheme was prepared by the National Bank for Agriculture and Rural Development (NABARD) on the recommendation of R. V. Gupta committee to provide term loans and agricultural needs.

A kisan credit card works in similar ways as a normal credit card. You can use it at ATMs and merchant post terminals. Under the kisan credit card scheme, customer can avail two types of credit i.e. cash credit and term loans. A short term credit limit is offered on the kisan credit card for smaller agricultural needs. Term loan can also be taken for cultivation, buying equipment, irrigation, etc. Card holders can use the kisan credit card for certain domestic needs as well.

The farmers also receive a passbook which contains all the relevant details of land holding, credit limit, validity, etc. The repayment period in kisan credit card is upto the maximum of 12 months and card is valid for a period between 3-5 years.

what is offered to farmers in kisan credit card scheme?

1. Cash credit and term loan
2. Only cash credit
3. Only term loan
4. Long term credit

**Options :**

485584147569. 1  
485584147570. 2  
485584147571. 3  
485584147572. 4

**Question Number : 148 Question Id : 48558436893 Question Type : MCQ Option Shuffling : No Is Question Mandatory : No Calculator : None Response Time : N.A Think Time : N.A Minimum Instruction Time : 0**

**Correct Marks : 5 Wrong Marks : 1**

**Question Key Details :**

Key	Value
Comprehension	Comp2

नीचे दिए गए अनुच्छेद को ध्यान से पढ़ें तथा प्रश्नों के उत्तर दें।

भारत में किसानों को बुवाई और कटाई के समय तथा कृषि संबंधित अन्य आवश्यकताओं को पूरा करने के लिए अल्पावधि धन की व्यवस्था करने के लिए कापी कठिनाई का सामना करना पड़ता है। वे अधिकतर असंघटित क्षेत्र जैसे साहूकारों से ऋण लेने के लिए निर्भर करते हैं, जो उनसे ब्याज की अमर्यादित दर की मांग करते हैं। ऐसे अल्पावधि ऋण की आवश्यकता को देखते हुए नाबार्ड तथा भारतीय रिज़र्व बैंक द्वारा किसान ऋण पत्र की योजना को प्रारम्भ किया गया। यह किसान ऋण पत्र व्यावसायिक बैंकों, क्षेत्रीय प्रामीण बैंकों तथा सहकारी बैंकों द्वारा प्रस्तुत किया गया।

किसान ऋण पत्र एक ऐसी ऋण योजना है जिसे भारतीय बैंकों ने अगस्त 1998 में प्रस्तावित किया। आदर्श योजना, राष्ट्रीय कृषि तथा ग्रामीण विकास बैंक (नाबार्ड) द्वारा आर.वी. गुप्ता समिति के प्रस्तावों पर सत्रीय ऋण देने तथा कृषि संबंधी आवश्यकताओं को पूरा करने के लिए तैयार की गई।

किसान ऋण पत्र किसी सामान्य ऋण पत्र की तरह ही कार्य करता है। आप इसे ए. टी. एम. पर तथा वणिज स्थल टर्मिनल पर उपयोग में ला सकते हैं। किसान ऋण पत्र योजना के अंतर्गत, ग्राहक दो प्रकार के ऋणों को प्राप्त कर सकता है अर्थात् नकद ऋण तथा सत्रीय ऋण। कृषि संबंधी छोटी आवश्यकताओं के लिए किसान ऋण पत्र द्वारा अल्पावधि ऋण सीमा प्रस्तावित की गई है। सत्रीय ऋण कर्षण, उपकरण खरीदने, सिंचाई आदि के लिए भी लिया जा सकता है। पत्र धारक इस ऋण पत्र को किन्हीं घरेलू आवश्यकताओं की पूर्ति के लिए उपयोग में ला सकता है। किसान को एक पास बुक भी दी जाती है जिसमें भूमि के टुकड़े, ऋण सीमा तथा वैधता आदि के विषय में सभी महत्वपूर्ण विवरण दिए होते हैं। किसान ऋण की वापसी की अवधि अधिकतम 12 महीनों तक होती है तथा यह पत्र 3-5 वर्षों की अवधि के लिए वैध होता है।

किसानों को किसान ऋण पत्र योजना में क्या प्रस्तुत किया जाता है ?

1. नकद ऋण तथा सत्रीय ऋण
2. केवल नकद ऋण
3. केवल सत्रीय ऋण
4. दीर्घ अवधि ऋण

**Options :**

485584147569. 1  
485584147570. 2  
485584147571. 3  
485584147572. 4

**Question Number : 149 Question Id : 48558436894 Question Type : MCQ Option Shuffling : No Is Question Mandatory : No Calculator : None Response Time : N.A Think Time : N.A Minimum Instruction Time : 0**

**Correct Marks : 5 Wrong Marks : 1**

**Question Key Details :**

Key	Value
Comprehension	Comp2

Read the given passage and answer question.

The farmers in India have to face much difficulty in arranging short term funds for the planting and harvesting season and to meet other agricultural needs. They are largely dependent on credit from the unorganized sector such as money lenders who charge exorbitant rate of interest. Realizing the need for such short-term credit, the kisan credit card scheme was launched by the Reserve Bank of India and NABARD. Kisan credit card is offered by commercial banks, regional rural banks and co-operative banks. The kisan credit card is a credit scheme introduced in August 1998 by Indian banks. The model scheme was prepared by the National Bank for Agriculture and Rural Development (NABARD) on the recommendation of R. V. Gupta committee to provide term loans and agricultural needs.

A kisan credit card works in similar ways as a normal credit card. You can use it at ATMs and merchant post terminals. Under the kisan credit card scheme, customer can avail two types of credit i.e. cash credit and term loans. A short term credit limit is offered on the kisan credit card for smaller agricultural needs. Term loan can also be taken for cultivation, buying equipment, irrigation, etc. Card holders can use the kisan credit card for certain domestic needs as well.

The farmers also receive a passbook which contains all the relevant details of land holding, credit limit, validity, etc. The repayment period in kisan credit card is upto the maximum of 12 months and card is valid for a period between 3-5 years.

The repayment period in kisan credit card is upto a maximum of \_\_\_\_\_ year.

1. 3 - 5
2. 1
3. 7
4. 10

**Options :**

485584147573. 1  
485584147574. 2  
485584147575. 3  
485584147576. 4

**Question Number : 149 Question Id : 48558436894 Question Type : MCQ Option Shuffling : No Is Question Mandatory : No Calculator : None Response Time : N.A Think Time : N.A Minimum Instruction Time : 0**

**Correct Marks : 5 Wrong Marks : 1**

**Question Key Details :**

Key	Value
Comprehension	Comp2

नीचे दिए गए अनुच्छेद को ध्यान से पढ़ें तथा प्रश्नों के उत्तर दें।

भारत में किसानों को बुवाई और कटाई के समय तथा कृषि संबंधित अन्य आवश्यकताओं को पूरा करने के लिए अल्पावधि धन की व्यवस्था करने के लिए कापरी कठिनाई का सामना करना पड़ता है। वे अधिकतर असंघटित क्षेत्र जैसे साहूकारों से ऋण लेने के लिए निर्भर करते हैं, जो उनसे ब्याज की अमर्यादित दर की मांग करते हैं। ऐसे अल्पावधि ऋण की आवश्यकता को देखते हुए नाबार्ड तथा भारतीय रिज़र्व बैंक द्वारा किसान ऋण पत्र की योजना को प्रारम्भ किया गया। यह किसान ऋण पत्र व्यावसायिक बैंकों, क्षेत्रीय प्रामीण बैंकों तथा सहकारी बैंकों द्वारा प्रस्तुत किया गया।

किसान ऋण पत्र एक ऐसी ऋण योजना है जिसे भारतीय बैंकों ने अगस्त 1998 में प्रस्तावित किया। आदर्श योजना, राष्ट्रीय कृषि तथा ग्रामीण विकास बैंक (नाबार्ड) द्वारा आर.वी. गुप्ता समिति के प्रस्तावों पर सत्रीय ऋण देने तथा कृषि संबंधी आवश्यकताओं को पूरा करने के लिए तैयार की गई।

किसान ऋण पत्र किसी सामान्य ऋण पत्र की तरह ही कार्य करता है। आप इसे ए. टी. एम. पर तथा वणिज स्थल टर्मिनल पर उपयोग में ला सकते हैं। किसान ऋण पत्र योजना के अंतर्गत, ग्राहक दो प्रकार के ऋणों को प्राप्त कर सकता है अर्थात् नकद ऋण तथा सत्रीय ऋण। कृषि संबंधी छोटी आवश्यकताओं के लिए किसान ऋण पत्र द्वारा अल्पावधि ऋण सीमा प्रस्तावित की गई है। सत्रीय ऋण कर्षण, उपकरण खरीदने, सिंचाई आदि के लिए भी लिया जा सकता है। पत्र धारक इस ऋण पत्र को किन्हीं घरेलू आवश्यकताओं की पूर्ति के लिए उपयोग में ला सकता है। किसान को एक पास बुक भी दी जाती है जिसमें भूमि के टुकड़े, ऋण सीमा तथा वैधता आदि के विषय में सभी महत्वपूर्ण विवरण दिए होते हैं। किसान ऋण की वापसी की अवधि अधिकतम 12 महीनों तक होती है तथा यह पत्र 3-5 वर्षों की अवधि के लिए वैध होता है।

किसान ऋण पत्र के अंतर्गत ऋण वापसी की अवधि अधिकतम \_\_\_\_\_ वर्ष तक है।

1. 3-5

2. 1

3. 7

4. 10

**Options :**

485584147573. 1

485584147574. 2

485584147575. 3

485584147576. 4

**Question Number : 150 Question Id : 48558436895 Question Type : MCQ Option Shuffling : No Is Question Mandatory : No Calculator : None Response Time : N.A Think Time : N.A Minimum Instruction Time : 0**

**Correct Marks : 5 Wrong Marks : 1**

**Question Key Details :**

Key	Value
Comprehension	Comp2

Read the given passage and answer question.

The farmers in India have to face much difficulty in arranging short term funds for the planting and harvesting season and to meet other agricultural needs. They are largely dependent on credit from the unorganized sector such as money lenders who charge exorbitant rate of interest. Realizing the need for such short-term credit, the kisan credit card scheme was launched by the Reserve Bank of India and NABARD. Kisan credit card is offered by commercial banks, regional rural banks and co-operative banks. The kisan credit card is a credit scheme introduced in August 1998 by Indian banks. The model scheme was prepared by the National Bank for Agriculture and Rural Development (NABARD) on the recommendation of R. V. Gupta committee to provide term loans and agricultural needs.

A kisan credit card works in similar ways as a normal credit card. You can use it at ATMs and merchant post terminals. Under the kisan credit card scheme, customer can avail two types of credit i.e. cash credit and term loans. A short term credit limit is offered on the kisan credit card for smaller agricultural needs. Term loan can also be taken for cultivation, buying equipment, irrigation, etc. Card holders can use the kisan credit card for certain domestic needs as well.

The farmers also receive a passbook which contains all the relevant details of land holding, credit limit, validity, etc. The repayment period in kisan credit card is upto the maximum of 12 months and card is valid for a period between 3-5 years.

Who recommended for kisan credit card model scheme?

1. R.V Gupta Committee
2. Jenney Committee
3. S. A Bhosle Committee
4. S. Kumar Committee

**Options :**

485584147577. 1  
485584147578. 2  
485584147579. 3  
485584147580. 4

**Question Number : 150 Question Id : 48558436895 Question Type : MCQ Option Shuffling : No Is Question Mandatory : No Calculator : None Response Time : N.A Think Time : N.A Minimum Instruction Time : 0**

**Correct Marks : 5 Wrong Marks : 1**

**Question Key Details :**

Key	Value
Comprehension	Comp2

नीचे दिए गए अनुच्छेद को ध्यान से पढ़ें तथा प्रश्नों के उत्तर दें।

भारत में किसानों को बुवाई और कटाई के समय तथा कृषि संबंधित अन्य आवश्यकताओं को पूरा करने के लिए अल्पावधि धन की व्यवस्था करने के लिए काफ़ी कठिनाई का सामना करना पड़ता है। वे अधिकतर असंघटित क्षेत्र जैसे साहूकारों से ऋण लेने के लिए निर्भर करते हैं, जो उनसे ब्याज की अमर्यादित दर की मांग करते हैं। ऐसे अल्पावधि ऋण की आवश्यकता को देखते हुए नाबार्ड तथा भारतीय रिज़र्व बैंक द्वारा किसान ऋण पत्र की योजना को प्रारम्भ किया गया। यह किसान ऋण पत्र व्यावसायिक बैंकों, क्षेत्रीय प्रामीण बैंकों तथा सहकारी बैंकों द्वारा प्रस्तुत किया गया।

किसान ऋण पत्र एक ऐसी ऋण योजना है जिसे भारतीय बैंकों ने अगस्त 1998 में प्रस्तावित किया। आदर्श योजना, राष्ट्रीय कृषि तथा ग्रामीण विकास बैंक (नाबार्ड) द्वारा आर.वी. गुप्ता समिति के प्रस्तावों पर सत्रीय ऋण देने तथा कृषि संबंधी आवश्यकताओं को पूरा करने के लिए तैयार की गई।

किसान ऋण पत्र किसी सामान्य ऋण पत्र की तरह ही कार्य करता है। आप इसे ए. टी. एम. पर तथा वणिज स्थल टर्मिनल पर उपयोग में ला सकते हैं। किसान ऋण पत्र योजना के अंतर्गत, ग्राहक दो प्रकार के ऋणों को प्राप्त कर सकता है अर्थात् नकद ऋण तथा सत्रीय ऋण। कृषि संबंधी छोटी आवश्यकताओं के लिए किसान ऋण पत्र द्वारा अल्पावधि ऋण सीमा प्रस्तावित की गई है। सत्रीय ऋण कर्षण, उपकरण खरीदने, सिंचाई आदि के लिए भी लिया जा सकता है। पत्र धारक इस ऋण पत्र को किन्हीं घरेलू आवश्यकताओं की पूर्ति के लिए उपयोग में ला सकता है। किसान को एक पास बुक भी दी जाती है जिसमें भूमि के टुकड़े, ऋण सीमा तथा वैधता आदि के विषय में सभी महत्वपूर्ण विवरण दिए होते हैं। किसान ऋण की वापसी की अवधि अधिकतम 12 महीनों तक होती है तथा यह पत्र 3-5 वर्षों की अवधि के लिए वैध होता है।

किसान ऋण पत्र आदर्श योजना का सुझाव किसने दिया?

1. आर. वी. गुप्ता समिति
2. जैनी समिति
3. एस. ए. भोंसले समिति
4. एस. कुमार समिति

Options :

485584147577. 1
485584147578. 2
485584147579. 3
485584147580. 4

## Business Studies

Group Number :	4
Group Id :	485584853
Group Maximum Duration :	45
Group Minimum Duration :	45
Show Attended Group? :	No
Edit Attended Group? :	No
Break time :	0
Group Marks :	200
Is this Group for Examiner? :	No
Examiner permission :	Cant View
Show Progress Bar? :	No

## Business Studies

Section Id :	485584981
Section Number :	1
Section type :	Online
Mandatory or Optional :	Mandatory
Number of Questions :	50
Number of Questions to be attempted :	40
Section Marks :	200

Enable Mark as Answered Mark for Review and Clear Response : Yes  
Maximum Instruction Time : 0  
Sub-Section Number : 1  
Sub-Section Id : 4855842792  
Question Shuffling Allowed : Yes  
Is Section Default? : null

Question Number : 151 Question Id : 48558436896 Question Type : MCQ Option Shuffling : No Is Question Mandatory : No Calculator : None  
Response Time : N.A Think Time : N.A Minimum Instruction Time : 0

Correct Marks : 5 Wrong Marks : 1

Question Key Details :

Key	Value
Comprehension	MCQ

Archit is a celebrated architect who is known for his designs across the country. He has received various awards in the past for his work. He has joined as a specialist in a renowned company. However, there are frequent clashes between him and the Architectural Head, Shashank of the business concern. Madhav Rao the project manager helped in reconciling the differences in the approaches, interests and opinions of Archit and Shashank to meet the organisational goals. Identify the importance of coordination highlighted in the above case.

1. Specialisation
2. Functional differentiation
3. Growth in size
4. Graph efforts

Options :

485584147581. 1  
485584147582. 2  
485584147583. 3  
485584147584. 4

Question Number : 151 Question Id : 48558436896 Question Type : MCQ Option Shuffling : No Is Question Mandatory : No Calculator : None  
Response Time : N.A Think Time : N.A Minimum Instruction Time : 0

Correct Marks : 5 Wrong Marks : 1

Question Key Details :

Key	Value
Comprehension	MCQ

अर्चित एक प्रसिद्ध वास्तुकार है जिन्हें उनके डिजाइन बनाने के लिए विदेशों में भी जाना जाता है। इन्होंने अपने कार्य के लिए पूर्व में अनेकों पुरस्कार प्राप्त किए हैं। उन्होंने एक कम्पनी में एक विशेषज्ञ के रूप में कार्यभार संभाला है। सुप्रसिद्ध कम्पनी तब भी उनका अपने वास्तुकार प्रमुख से टकराव होते रहते हैं। माधवराव जो परियोजना प्रबन्धक हैं वे दोनों के दृष्टिकोण, हित व राय को मिलाते का प्रयास करते हैं तथा वे अर्चित और शशांक की राय को संगठनात्मक उद्देश्यों के लिए प्रयोग करते हैं। उपरोक्त मामले में मुख्य रूप से समन्वय के किस महत्व का उल्लेख है उसे पहचानिये।

1. विशेषज्ञता
2. क्रियात्मक भेदभाव
3. आकार में वृद्धि
4. ग्राफ प्रयास

Options :

485584147581. 1  
485584147582. 2  
485584147583. 3  
485584147584. 4

Question Number : 152 Question Id : 48558436897 Question Type : MCQ Option Shuffling : No Is Question Mandatory : No Calculator : None  
Response Time : N.A Think Time : N.A Minimum Instruction Time : 0

Correct Marks : 5 Wrong Marks : 1

Question Key Details :

Key	Value
Comprehension	MCQ

Identify the incorrect statement:

1. Coordination unifies unrelated or diverse interests into purposeful work activity
2. Coordination acts as a binding force between departments and ensures that all actions are aimed at achieving organisational goals
3. Coordination is a one time function
4. A manager has to coordinate the efforts of different people in a conscious and deliberate manner

Options :

- 485584147585. 1
- 485584147586. 2
- 485584147587. 3
- 485584147588. 4

Question Number : 152 Question Id : 48558436897 Question Type : MCQ Option Shuffling : No Is Question Mandatory : No Calculator : None  
Response Time : N.A Think Time : N.A Minimum Instruction Time : 0

Correct Marks : 5 Wrong Marks : 1

Question Key Details :

Key	Value
Comprehension	MCQ

असंगत कथन को पहचानिये

1. समन्वय असंबंधित समान या विविध हितो को उद्देश्यपूरण कार्य गतिविधि है।
2. समन्वय एक कार्य शक्ति है जो विभागो को जोठने तथा यह सुनिश्चित करना कि सभी क्रियाओ की उद्देश्य संगठनात्मक लक्ष्यों की प्राप्ति हो।
3. समन्वय एक बार किया जाने वाला कार्य है।
4. एक प्रबन्धक विविध व्यक्तियों के द्वारा जागरुपक होते हुए और जानबुझकर किस गए प्रयासो में समन्वय बनाता है।

Options :

- 485584147585. 1
- 485584147586. 2
- 485584147587. 3
- 485584147588. 4

Question Number : 153 Question Id : 48558436898 Question Type : MCQ Option Shuffling : No Is Question Mandatory : No Calculator : None  
Response Time : N.A Think Time : N.A Minimum Instruction Time : 0

Correct Marks : 5 Wrong Marks : 1

Question Key Details :

Key	Value
Comprehension	MCQ



Identify the type of plan which is a detailed statements about a project that outlines the objectives, policies, procedures, rules, tasks, human and physical resources required and the budget to implement any course of action.

1. Method
2. Strategy
3. Budgetary Control
4. Programme

**Options :**

- 485584147589. 1
- 485584147590. 2
- 485584147591. 3
- 485584147592. 4

**Question Number : 153 Question Id : 48558436898 Question Type : MCQ Option Shuffling : No Is Question Mandatory : No Calculator : None Response Time : N.A Think Time : N.A Minimum Instruction Time : 0**

**Correct Marks : 5 Wrong Marks : 1**

**Question Key Details :**

Key	Value
Comprehension	MCQ

योजना के उस प्रकार को पहचानिये जिसमे परियोजना की रूपरेखा, उद्देश्य, नितियों, प्रक्रियाओ, नियम कार्य और भौतिक संसाधन आवश्यकता और बजट का प्रयोग व कार्यवाही के दौरान का विस्तृत विवरण है।

1. विधि
2. कार्य विधि
3. बजटीय नियन्त्रण
4. कार्यक्रम

**Options :**

- 485584147589. 1
- 485584147590. 2
- 485584147591. 3
- 485584147592. 4

**Question Number : 154 Question Id : 48558436899 Question Type : MCQ Option Shuffling : No Is Question Mandatory : No Calculator : None Response Time : N.A Think Time : N.A Minimum Instruction Time : 0**

**Correct Marks : 5 Wrong Marks : 1**

**Question Key Details :**

Key	Value
Comprehension	MCQ

Which of the following is a function of Middle Level Management ?

1. Formulation of Overall Goals of the Organisation
2. Overseeing the efforts of workforce
3. Cooperate with other departments for the smooth functioning of organisation
4. Analysing Business Environment

**Options :**

- 485584147593. 1
- 485584147594. 2

485584147595. 3  
485584147596. 4

**Question Number : 154 Question Id : 48558436899 Question Type : MCQ Option Shuffling : No Is Question Mandatory : No Calculator : None  
Response Time : N.A Think Time : N.A Minimum Instruction Time : 0  
Correct Marks : 5 Wrong Marks : 1**

**Question Key Details :**

Key	Value
Comprehension	MCQ

निम्नलिखित में से कौन सा मध्य स्तरीय प्रबन्ध का कार्य है?

1. संगठन के सभी लक्ष्यों का निर्धारण
2. कार्य बल के प्रयासों को देखना
3. संगठन के कार्य को सुचारु से चलाने के लिए अन्य विभागों से सहयोग करना।
4. व्यवसायिक वातावरण का विश्लेषण

**Options :**

485584147593. 1  
485584147594. 2  
485584147595. 3  
485584147596. 4

**Question Number : 155 Question Id : 48558436900 Question Type : MCQ Option Shuffling : No Is Question Mandatory : No Calculator : None  
Response Time : N.A Think Time : N.A Minimum Instruction Time : 0  
Correct Marks : 5 Wrong Marks : 1**

**Question Key Details :**

Key	Value
Comprehension	MCQ

\_\_\_\_\_ are general statements that guide thinking towards a particular direction.

1. Strategies
2. Policies
3. Procedures
4. Goals

**Options :**

485584147597. 1  
485584147598. 2  
485584147599. 3  
485584147600. 4

**Question Number : 155 Question Id : 48558436900 Question Type : MCQ Option Shuffling : No Is Question Mandatory : No Calculator : None  
Response Time : N.A Think Time : N.A Minimum Instruction Time : 0  
Correct Marks : 5 Wrong Marks : 1**

**Question Key Details :**

Key	Value
Comprehension	MCQ

\_\_\_\_\_ एक सामान्य कथन है जो एक निश्चित दिशा की ओर विचारों का मार्गदर्शक है।

1. रणनीति
2. नितियाँ
3. प्रक्रियाएँ
4. उद्देश्य या लक्ष्य

**Options :**

485584147597. 1  
485584147598. 2  
485584147599. 3  
485584147600. 4

**Question Number : 156 Question Id : 48558436901 Question Type : MCQ Option Shuffling : No Is Question Mandatory : No Calculator : None Response Time : N.A Think Time : N.A Minimum Instruction Time : 0**

**Correct Marks : 5 Wrong Marks : 1**

**Question Key Details :**

Key	Value
Comprehension	MCQ

Identify the type of plan which is framed to acquire dominant position in the market:

1. Policy
2. Strategy
3. Programme
4. Procedure

**Options :**

485584147601. 1  
485584147602. 2  
485584147603. 3  
485584147604. 4

**Question Number : 156 Question Id : 48558436901 Question Type : MCQ Option Shuffling : No Is Question Mandatory : No Calculator : None Response Time : N.A Think Time : N.A Minimum Instruction Time : 0**

**Correct Marks : 5 Wrong Marks : 1**

**Question Key Details :**

Key	Value
Comprehension	MCQ

योजना के उस प्रकार की पहचान करें जिसे बाजार पर हावी होने के लिए बनाया जाता है।

1. नीति
2. रणनीति
3. कार्यक्रम
4. कार्य विधि

**Options :**

485584147601. 1  
485584147602. 2  
485584147603. 3  
485584147604. 4

Question Number : 157 Question Id : 48558436902 Question Type : MCQ Option Shuffling : No Is Question Mandatory : No Calculator : None Response Time : N.A Think Time : N.A Minimum Instruction Time : 0

Correct Marks : 5 Wrong Marks : 1

Question Key Details :

Key	Value
Comprehension	MCQ

\_\_\_\_\_ is much more than a mere transfer of authority to the lower levels of management.

1. Delegation
2. Centralisation
3. Development
4. Decentralisation

Options :

- 485584147605. 1
- 485584147606. 2
- 485584147607. 3
- 485584147608. 4

Question Number : 157 Question Id : 48558436902 Question Type : MCQ Option Shuffling : No Is Question Mandatory : No Calculator : None Response Time : N.A Think Time : N.A Minimum Instruction Time : 0

Correct Marks : 5 Wrong Marks : 1

Question Key Details :

Key	Value
Comprehension	MCQ

\_\_\_\_\_ निम्न स्तरीय प्रबन्ध को कुछ अधिक अधिकार देना है।

1. प्रत्यापीजन
2. केन्द्रीय करण
3. विकास
4. विकेन्द्रीकरण

Options :

- 485584147605. 1
- 485584147606. 2
- 485584147607. 3
- 485584147608. 4

Question Number : 158 Question Id : 48558436903 Question Type : MCQ Option Shuffling : No Is Question Mandatory : No Calculator : None Response Time : N.A Think Time : N.A Minimum Instruction Time : 0

Correct Marks : 5 Wrong Marks : 1

Question Key Details :

Key	Value
Comprehension	MCQ

Identify the basis of management hierarchy:

1. Decentralisation
2. Delegation of Authority
3. Centralisation
4. Centralisation and Decentralisation

Options :

485584147609. 1  
485584147610. 2  
485584147611. 3  
485584147612. 4

**Question Number : 158 Question Id : 48558436903 Question Type : MCQ Option Shuffling : No Is Question Mandatory : No Calculator : None Response Time : N.A Think Time : N.A Minimum Instruction Time : 0**

**Correct Marks : 5 Wrong Marks : 1**

**Question Key Details :**

Key	Value
Comprehension	MCQ

प्रबंध के पदानुक्रम को पहचानिए

1. विकेन्द्रीकरण
2. अधिकार सौपना
3. केन्द्रीकरण
4. केन्द्रीयकरण व विकेन्द्रीकरण

**Options :**

485584147609. 1  
485584147610. 2  
485584147611. 3  
485584147612. 4

**Question Number : 159 Question Id : 48558436904 Question Type : MCQ Option Shuffling : No Is Question Mandatory : No Calculator : None Response Time : N.A Think Time : N.A Minimum Instruction Time : 0**

**Correct Marks : 5 Wrong Marks : 1**

**Question Key Details :**

Key	Value
Comprehension	MCQ

"It refers to being answerable for the final outcome". Which element of delegation this statement represent ?

1. Authority
2. Accountability
3. Responsibility
4. Decentralisation

**Options :**

485584147613. 1  
485584147614. 2  
485584147615. 3  
485584147616. 4

**Question Number : 159 Question Id : 48558436904 Question Type : MCQ Option Shuffling : No Is Question Mandatory : No Calculator : None Response Time : N.A Think Time : N.A Minimum Instruction Time : 0**

**Correct Marks : 5 Wrong Marks : 1**

**Question Key Details :**

Key	Value
Comprehension	MCQ

"यह अंतिम रूप से जबाबदेही से संबंधित है" यह वाक्य प्रत्यापीजन के किस तत्व का प्रतिनिधित्व करता है?

1. प्रधिकार
2. जबाबदेही
3. जिम्मेदारी
4. विकेन्द्रीयकरण

**Options :**

485584147613. 1  
485584147614. 2  
485584147615. 3  
485584147616. 4

**Question Number : 160 Question Id : 48558436905 Question Type : MCQ Option Shuffling : No Is Question Mandatory : No Calculator : None Response Time : N.A Think Time : N.A Minimum Instruction Time : 0**

**Correct Marks : 5 Wrong Marks : 1**

**Question Key Details :**

Key	Value
Comprehension	MCQ

"Information is broken into meaningful units and these units are arranged in a proper way to form a logical learning package".

Which training method has been indicated in the above para?

1. Case study
2. Computer modelling
3. Coaching
4. Programmed instruction

**Options :**

485584147617. 1  
485584147618. 2  
485584147619. 3  
485584147620. 4

**Question Number : 160 Question Id : 48558436905 Question Type : MCQ Option Shuffling : No Is Question Mandatory : No Calculator : None Response Time : N.A Think Time : N.A Minimum Instruction Time : 0**

**Correct Marks : 5 Wrong Marks : 1**

**Question Key Details :**

Key	Value
Comprehension	MCQ

"सूचनाओं का अर्थपूर्ण रूप से खंडित होना और इनका तार्किक रूप से सीखने के लिए एकत्र होना"

उपरोक्त कथन में प्रशिक्षण की किस विधि को दर्शाया गया है उसे पहचानिए

1. मामले का अध्ययन
2. कम्प्यूटर मॉडलिंग
3. अनुशिक्षण (कोचिंग)
4. कार्यक्रमानुसार निर्देश

**Options :**

485584147617. 1  
485584147618. 2  
485584147619. 3  
485584147620. 4

**Question Number : 161 Question Id : 48558436906 Question Type : MCQ Option Shuffling : No Is Question Mandatory : No Calculator : None  
Response Time : N.A Think Time : N.A Minimum Instruction Time : 0**

**Correct Marks : 5 Wrong Marks : 1**

**Question Key Details :**

Key	Value
Comprehension	MCQ

Identify which of the following is an internal source of recruitment

1. Casual Callers
2. Labour Contractors
3. Promotion
4. Placement Agencies

**Options :**

485584147621. 1  
485584147622. 2  
485584147623. 3  
485584147624. 4

**Question Number : 161 Question Id : 48558436906 Question Type : MCQ Option Shuffling : No Is Question Mandatory : No Calculator : None  
Response Time : N.A Think Time : N.A Minimum Instruction Time : 0**

**Correct Marks : 5 Wrong Marks : 1**

**Question Key Details :**

Key	Value
Comprehension	MCQ

निम्नलिखित में से आंतरिक भर्ती के स्रोत की पहचान करिये।

1. आकस्मिक बुलावा
2. भ्रम ठेकेदार
3. प्रोन्नति (पदोन्नति)
4. नौकरी लगाने वाली संस्था

**Options :**

485584147621. 1  
485584147622. 2  
485584147623. 3  
485584147624. 4

**Question Number : 162 Question Id : 48558436907 Question Type : MCQ Option Shuffling : No Is Question Mandatory : No Calculator : None  
Response Time : N.A Think Time : N.A Minimum Instruction Time : 0**

**Correct Marks : 5 Wrong Marks : 1**

**Question Key Details :**

Key	Value
Comprehension	MCQ

Which of the following is financial incentive ?

1. Status
2. Job Enrichment
3. Job Security
4. Retirement Benefits

**Options :**

- 485584147625. 1
- 485584147626. 2
- 485584147627. 3
- 485584147628. 4

**Question Number : 162 Question Id : 48558436907 Question Type : MCQ Option Shuffling : No Is Question Mandatory : No Calculator : None Response Time : N.A Think Time : N.A Minimum Instruction Time : 0**

**Correct Marks : 5 Wrong Marks : 1**

**Question Key Details :**

Key	Value
Comprehension	MCQ

निम्न में कौन सा वित्तीय प्रोत्साहन का प्रकार है?

1. प्रतिष्ठा
2. कार्य समृद्धिकरण
3. कार्य सुरक्षा
4. सेवा निवृत्ति अनुलाभ

**Options :**

- 485584147625. 1
- 485584147626. 2
- 485584147627. 3
- 485584147628. 4

**Question Number : 163 Question Id : 48558436908 Question Type : MCQ Option Shuffling : No Is Question Mandatory : No Calculator : None Response Time : N.A Think Time : N.A Minimum Instruction Time : 0**

**Correct Marks : 5 Wrong Marks : 1**

**Question Key Details :**

Key	Value
Comprehension	MCQ

"While controlling, management should focus on key result areas which are critical to the success of an organisation."

Identify the concept highlighted here:

1. Budgetary Control
2. Management by Exception
3. Critical Point Control
4. Breakeven Analysis

**Options :**

- 485584147629. 1
- 485584147630. 2
- 485584147631. 3



485584147632. 4

Question Number : 163 Question Id : 48558436908 Question Type : MCQ Option Shuffling : No Is Question Mandatory : No Calculator : None  
Response Time : N.A Think Time : N.A Minimum Instruction Time : 0

Correct Marks : 5 Wrong Marks : 1

Question Key Details :

Key	Value
Comprehension	MCQ

"जब नियन्त्रण प्रबन्ध के मुख्य क्षेत्र पर ध्यान केन्द्रित करता है तब यह संगठन की सफलता के लिए महत्वपूर्ण होता है"

1. बजटरी नियन्त्रण
2. प्रबन्ध के अपवाद
3. नियन्त्रण के आलोचनात्मक बिन्दू
4. समविच्येद विश्लेषण (Breakeven Analysis)

Options :

- 485584147629. 1
- 485584147630. 2
- 485584147631. 3
- 485584147632. 4

Question Number : 164 Question Id : 48558436909 Question Type : MCQ Option Shuffling : No Is Question Mandatory : No Calculator : None  
Response Time : N.A Think Time : N.A Minimum Instruction Time : 0

Correct Marks : 5 Wrong Marks : 1

Question Key Details :

Key	Value
Comprehension	MCQ

Which technique of controlling is used for planning ,scheduling and implementing time bound projects involving complex & diverse activities ?

1. Breakeven Analysis
2. Budgetary Control
3. Management Audit
4. PERT

Options :

- 485584147633. 1
- 485584147634. 2
- 485584147635. 3
- 485584147636. 4

Question Number : 164 Question Id : 48558436909 Question Type : MCQ Option Shuffling : No Is Question Mandatory : No Calculator : None  
Response Time : N.A Think Time : N.A Minimum Instruction Time : 0

Correct Marks : 5 Wrong Marks : 1

Question Key Details :

Key	Value
Comprehension	MCQ

नियन्त्रण की कौन सी तकनीक है जिसका प्रयोग योजना बनाना, अभिसूचित करना और लागू करना समप वह परियोजना की जटिल विविध प्रक्रिया में किया जाता है।

1. समविच्छेद विश्लेषण
2. बजटरी नियन्त्रण
3. प्रबंधकीय अंकेक्षण (Management Audit)
4. पी.ई.आर.टी.

**Options :**

485584147633. 1  
485584147634. 2  
485584147635. 3  
485584147636. 4

**Question Number : 165 Question Id : 48558436910 Question Type : MCQ Option Shuffling : No Is Question Mandatory : No Calculator : None Response Time : N.A Think Time : N.A Minimum Instruction Time : 0**

**Correct Marks : 5 Wrong Marks : 1**

**Question Key Details :**

Key	Value
Comprehension	MCQ

Identify the concept that aims at ensuring availability of enough funds whenever required as well as avoiding idle finance.

1. Financial Planning
2. Financial Management
3. Financing Decision
4. Finance

**Options :**

485584147637. 1  
485584147638. 2  
485584147639. 3  
485584147640. 4

**Question Number : 165 Question Id : 48558436910 Question Type : MCQ Option Shuffling : No Is Question Mandatory : No Calculator : None Response Time : N.A Think Time : N.A Minimum Instruction Time : 0**

**Correct Marks : 5 Wrong Marks : 1**

**Question Key Details :**

Key	Value
Comprehension	MCQ

उस विचार को पहचाने जिसका उद्देश्य कोषों का आवश्यकतानुसार पर्याप्त रूप में उपलब्ध कराना है तथा साथ ही यह भी सुनिश्चित करना है कि कोष अधिक रूप में व्यर्थ ना पडा रहे।

1. वित्तिय नियोजन
2. वित्तिय प्रबन्ध
3. वित्तिय निर्णय
4. वित्त

**Options :**

485584147637. 1  
485584147638. 2

485584147639. 3  
485584147640. 4

**Question Number : 166 Question Id : 48558436911 Question Type : MCQ Option Shuffling : No Is Question Mandatory : No Calculator : None  
Response Time : N.A Think Time : N.A Minimum Instruction Time : 0  
Correct Marks : 5 Wrong Marks : 1**

**Question Key Details :**

Key	Value
Comprehension	MCQ

If the business uses capital intensive technique, it requires \_\_\_\_\_ investment in plant machinery.

1. Low
2. Very low
3. High
4. Moderate

**Options :**

485584147641. 1  
485584147642. 2  
485584147643. 3  
485584147644. 4

**Question Number : 166 Question Id : 48558436911 Question Type : MCQ Option Shuffling : No Is Question Mandatory : No Calculator : None  
Response Time : N.A Think Time : N.A Minimum Instruction Time : 0  
Correct Marks : 5 Wrong Marks : 1**

**Question Key Details :**

Key	Value
Comprehension	MCQ

यदि व्यवसाय पूँजी गहन तकनीक का प्रयोग करता है तो उसे संपन्न और मशीनरी में \_\_\_\_\_ निवेश की आवश्यकता होगी।

1. कम
2. बहुत कम
3. उच्च
4. उदारवादी

**Options :**

485584147641. 1  
485584147642. 2  
485584147643. 3  
485584147644. 4

**Question Number : 167 Question Id : 48558436912 Question Type : MCQ Option Shuffling : No Is Question Mandatory : No Calculator : None  
Response Time : N.A Think Time : N.A Minimum Instruction Time : 0  
Correct Marks : 5 Wrong Marks : 1**

**Question Key Details :**

Key	Value
Comprehension	MCQ

How many financial decisions are mainly taken in financial management?

1. Two decisions
2. Three decisions
3. Four decisions
4. Five decisions

**Options :**

- 485584147645. 1
- 485584147646. 2
- 485584147647. 3
- 485584147648. 4

**Question Number : 167 Question Id : 48558436912 Question Type : MCQ Option Shuffling : No Is Question Mandatory : No Calculator : None Response Time : N.A Think Time : N.A Minimum Instruction Time : 0**

**Correct Marks : 5 Wrong Marks : 1**

**Question Key Details :**

Key	Value
Comprehension	MCQ

वित्तीय प्रबन्ध में मुख्य रूप से कितने वित्तीय निर्णय लिए जाते हैं?

1. दो निर्णय
2. तीन निर्णय
3. चार निर्णय
4. पाँच निर्णय

**Options :**

- 485584147645. 1
- 485584147646. 2
- 485584147647. 3
- 485584147648. 4

**Question Number : 168 Question Id : 48558436913 Question Type : MCQ Option Shuffling : No Is Question Mandatory : No Calculator : None Response Time : N.A Think Time : N.A Minimum Instruction Time : 0**

**Correct Marks : 5 Wrong Marks : 1**

**Question Key Details :**

Key	Value
Comprehension	MCQ

Four Ps of marketing mix are:

1. Product, Place, Person and Publicity
2. Product, Price, Person and Publicity
3. Product, Price, Place and Publicity
4. Product, Price, Place and Promotion

**Options :**

- 485584147649. 1
- 485584147650. 2
- 485584147651. 3
- 485584147652. 4

Question Number : 168 Question Id : 48558436913 Question Type : MCQ Option Shuffling : No Is Question Mandatory : No Calculator : None Response Time : N.A Think Time : N.A Minimum Instruction Time : 0

Correct Marks : 5 Wrong Marks : 1

Question Key Details :

Key	Value
Comprehension	MCQ

विपणन मिश्र के चार P है:-

1. उत्पाद, स्थान, व्यक्ति और प्रचार
2. उत्पाद, कीमत, व्यक्ति और प्रचार
3. उत्पाद, कीमत, स्थापन और प्रचार
4. उत्पाद, कीमत, स्थान और प्रमोशन

Options :

- 485584147649. 1
- 485584147650. 2
- 485584147651. 3
- 485584147652. 4

Question Number : 169 Question Id : 48558436914 Question Type : MCQ Option Shuffling : No Is Question Mandatory : No Calculator : None Response Time : N.A Think Time : N.A Minimum Instruction Time : 0

Correct Marks : 5 Wrong Marks : 1

Question Key Details :

Key	Value
Comprehension	MCQ

Which Marketing Management philosophy has main focus on quality performance?

1. Product Concept
2. Selling Concept
3. Marketing Concept
4. Societal Concept

Options :

- 485584147653. 1
- 485584147654. 2
- 485584147655. 3
- 485584147656. 4

Question Number : 169 Question Id : 48558436914 Question Type : MCQ Option Shuffling : No Is Question Mandatory : No Calculator : None Response Time : N.A Think Time : N.A Minimum Instruction Time : 0

Correct Marks : 5 Wrong Marks : 1

Question Key Details :

Key	Value
Comprehension	MCQ

विपणन प्रबन्ध दर्शन में किसके अन्तर्गत गुणवत्ता निष्पादन पर ध्यान केन्द्रित किया जाता है?

1. उत्पाद अवधारणा
2. विक्रम अवधारणा
3. विपणन अवधारणा
4. सामाजिक अवधारणा

**Options :**

- 485584147653. 1
- 485584147654. 2
- 485584147655. 3
- 485584147656. 4

**Question Number : 170 Question Id : 48558436915 Question Type : MCQ Option Shuffling : No Is Question Mandatory : No Calculator : None Response Time : N.A Think Time : N.A Minimum Instruction Time : 0**

**Correct Marks : 5 Wrong Marks : 1**

**Question Key Details :**

Key	Value
Comprehension	MCQ

Identify the right which gives consumer freedom to access variety of products at competitive prices.

1. Right to be informed
2. Right to be heard
3. Right to be assured
4. Right to consumer education

**Options :**

- 485584147657. 1
- 485584147658. 2
- 485584147659. 3
- 485584147660. 4

**Question Number : 170 Question Id : 48558436915 Question Type : MCQ Option Shuffling : No Is Question Mandatory : No Calculator : None Response Time : N.A Think Time : N.A Minimum Instruction Time : 0**

**Correct Marks : 5 Wrong Marks : 1**

**Question Key Details :**

Key	Value
Comprehension	MCQ

उस अधिकार को पहचानिये जो उपभोक्ता को विभिन्न किस्मों के उत्पाद को प्रतियोगी कीमतों पर चुनने का अधिकार देता है।

1. सूचित किए जाने का अधिकार
2. सुनवाई का अधिकार
3. आश्वस्त होने का अधिकार
4. उपभोक्ता शिक्षा का अधिकार

**Options :**

- 485584147657. 1
- 485584147658. 2
- 485584147659. 3
- 485584147660. 4

**Question Number : 171 Question Id : 48558436916 Question Type : MCQ Option Shuffling : No Is Question Mandatory : No Calculator : None Response Time : N.A Think Time : N.A Minimum Instruction Time : 0**

**Correct Marks : 5 Wrong Marks : 1**

**Question Key Details :**

Key	Value
Comprehension	MCQ

Kavita was not satisfied by the order of State Commission. She wants to appeal against that order to the National Commission. Select within which period of such order she can file appeal to the National Commission.

1. 25 days
2. 30 days
3. 40 days
4. 20 days

**Options :**

485584147661. 1  
485584147662. 2  
485584147663. 3  
485584147664. 4

**Question Number : 171 Question Id : 48558436916 Question Type : MCQ Option Shuffling : No Is Question Mandatory : No Calculator : None Response Time : N.A Think Time : N.A Minimum Instruction Time : 0**

**Correct Marks : 5 Wrong Marks : 1**

**Question Key Details :**

Key	Value
Comprehension	MCQ

कविता राज्य आयोग के आदेश से सन्तुष्ट नहीं है। वह इस आदेश को विरुद्ध राष्ट्रीय आयोग में अपील करना चाहती है। निम्न में से उस अवधि को चुनिए जिसमें वह इस आदेश के विरुद्ध राष्ट्रीय आयोग में अपील कर सकती है?

1. 25 दिन
2. 30 दिन
3. 40 दिन
4. 20 दिन

**Options :**

485584147661. 1  
485584147662. 2  
485584147663. 3  
485584147664. 4

**Question Number : 172 Question Id : 48558436917 Question Type : MCQ Option Shuffling : No Is Question Mandatory : No Calculator : None Response Time : N.A Think Time : N.A Minimum Instruction Time : 0**

**Correct Marks : 5 Wrong Marks : 1**

**Question Key Details :**

Key	Value
Comprehension	MCQ

A consumer buys a cheap article without any quality check. Which of the following responsibility is being abdicated by the consumer?

1. Buy only standardised goods
2. Be honest in your dealings
3. Read labels carefully
4. Learn about risks associated with product

**Options :**

485584147665. 1

485584147666.2  
485584147667.3  
485584147668.4

Question Number : 172 Question Id : 48558436917 Question Type : MCQ Option Shuffling : No Is Question Mandatory : No Calculator : None  
Response Time : N.A Think Time : N.A Minimum Instruction Time : 0

Correct Marks : 5 Wrong Marks : 1

Question Key Details :

Key	Value
Comprehension	MCQ

एक उपभोक्ता ने विना गुणवत्ता जाँच किस वस्तु को खरीदा। इस प्रकार उसने उपभोक्ता के रूप में निम्न में से किस जिम्मेदारी का निर्वहन नहीं किया।

1. केवल मानक वस्तुओं को खरीदना
2. अपने व्यवहार के प्रति सत्य निष्ठा
3. लेबल को ध्यान पूर्वक पढ़ना
4. उत्पाद के सभी जोखिम के बारे में जानना

Options :

485584147665.1  
485584147666.2  
485584147667.3  
485584147668.4

Question Number : 173 Question Id : 48558436918 Question Type : MCQ Option Shuffling : No Is Question Mandatory : No Calculator : None  
Response Time : N.A Think Time : N.A Minimum Instruction Time : 0

Correct Marks : 5 Wrong Marks : 1

Question Key Details :

Key	Value
Comprehension	MCQ

Identify which of the following is not a protective function of SEBI?

1. Prohibition of fraudulent & unfair trade practices.
2. Training of intermediaries of the securities market
3. Controlling insider trading
4. Promotion of fair practices and code of conduct in securities market

Options :

485584147669.1  
485584147670.2  
485584147671.3  
485584147672.4

Question Number : 173 Question Id : 48558436918 Question Type : MCQ Option Shuffling : No Is Question Mandatory : No Calculator : None  
Response Time : N.A Think Time : N.A Minimum Instruction Time : 0

Correct Marks : 5 Wrong Marks : 1

Question Key Details :

Key	Value
Comprehension	MCQ



निम्नलिखित में से कौनसा SEBI का संरक्षणात्मक कार्य नहीं है?

1. धोखाधड़ी एवं अनुचित व्यापार व्यवहारों को निषेध करना
2. प्रतिभूति बाजार के मध्यस्थों का प्रशिक्षण
3. आंतरिक व्यापार का नियन्त्रण
4. उचितव्यवहार एवं प्रतिभूत बाजार आचार संहिता का संवर्धन

**Options :**

485584147669. 1  
485584147670. 2  
485584147671. 3  
485584147672. 4

**Question Number : 174 Question Id : 48558436919 Question Type : MCQ Option Shuffling : No Is Question Mandatory : No Calculator : None Response Time : N.A Think Time : N.A Minimum Instruction Time : 0**

**Correct Marks : 5 Wrong Marks : 1**

**Question Key Details :**

Key	Value
Comprehension	MCQ

Which money market instrument is issued in the form of promissory note that is available for a minimum amount of ₹25,000 and in multiples thereof?

1. Treasury Bill
2. Commercial Paper
3. Certificate of Deposit
4. Commercial Bill

**Options :**

485584147673. 1  
485584147674. 2  
485584147675. 3  
485584147676. 4

**Question Number : 174 Question Id : 48558436919 Question Type : MCQ Option Shuffling : No Is Question Mandatory : No Calculator : None Response Time : N.A Think Time : N.A Minimum Instruction Time : 0**

**Correct Marks : 5 Wrong Marks : 1**

**Question Key Details :**

Key	Value
Comprehension	MCQ

किस मुद्रा बाजार के यन्त्र के रूप कम से कम 25000 या उसके गुणज में प्रतिज्ञा को जारी किए जाते हैं?

1. कोषीय विपत्र (Treasury Bill)
2. वाणिज्यिक प्रपत्र (Commercial Paper)
3. जमा प्रमाण पत्र (Certificate of Deposit)
4. वाणिज्यिक विपत्र (Commercial Bill)

**Options :**

485584147673. 1  
485584147674. 2  
485584147675. 3  
485584147676. 4

Question Number : 175 Question Id : 48558436920 Question Type : MCQ Option Shuffling : No Is Question Mandatory : No Calculator : None  
Response Time : N.A Think Time : N.A Minimum Instruction Time : 0

Correct Marks : 5 Wrong Marks : 1

Question Key Details :

Key	Value
Comprehension	MCQ

According to EDI, Assertiveness refers to:

1. Conveying emphatically one's vision and convincing others of its value.
2. Observing the symptoms, diagnosing and curing
3. Taking personal points to complete a task scheduled
4. A 'never say die' attitude

Options :

- 485584147677. 1
- 485584147678. 2
- 485584147679. 3
- 485584147680. 4

Question Number : 175 Question Id : 48558436920 Question Type : MCQ Option Shuffling : No Is Question Mandatory : No Calculator : None  
Response Time : N.A Think Time : N.A Minimum Instruction Time : 0

Correct Marks : 5 Wrong Marks : 1

Question Key Details :

Key	Value
Comprehension	MCQ

EDI के अनुसार दृढ़ता का संबंध है:-

1. किसी दृष्टिकोण को प्रभावशाली व्यक्त करना एवं दूसरो को इसके मूल्यों में विश्वास दिलाना
2. लक्ष्यों, निदान व इलाज का अवलोकन करना
3. व्यक्तिगत बिन्दुओं से अभिसूचित लक्ष्य प्राप्त करना
4. "कभी हार न मानना" का नजरिया का सोच

Options :

- 485584147677. 1
- 485584147678. 2
- 485584147679. 3
- 485584147680. 4

Question Number : 176 Question Id : 48558436921 Question Type : MCQ Option Shuffling : No Is Question Mandatory : No Calculator : None  
Response Time : N.A Think Time : N.A Minimum Instruction Time : 0

Correct Marks : 5 Wrong Marks : 1

Question Key Details :

Key	Value
Comprehension	MCQ

Arrange the following steps of Trading & Settlement procedure of securities, in a correct order.

- A. Issue of Contract Note by broker
- B. Opening a Demat Account
- C. Signing a broker-client agreement
- D. Placing an order
- E. Settlement cycle

Choose the correct answer from the options given below:

- 1. B, D, C, A, E
- 2. D, C, B, E, A
- 3. A, C, D, B, E
- 4. C, B, D, A, E

**Options :**

- 485584147681. 1
- 485584147682. 2
- 485584147683. 3
- 485584147684. 4

**Question Number : 176 Question Id : 48558436921 Question Type : MCQ Option Shuffling : No Is Question Mandatory : No Calculator : None Response Time : N.A Think Time : N.A Minimum Instruction Time : 0**

**Correct Marks : 5 Wrong Marks : 1**

**Question Key Details :**

Key	Value
Comprehension	MCQ

नियन्त्रण प्रक्रिया के निम्न चरणों को सही क्रम में व्यवस्थित करें।

- A. दलाल के द्वारा अनुबंध पत्र जारी करना
- B. डिमेट खाता खोलना
- C. दलाल और ग्राहक के बीच सहमती पत्र पर हस्ताक्षर करना
- D. आदेश कार्यान्वित करना
- E. अंतरण का निपटान

- 1. B, D, C, A, E
- 2. D, C, B, E, A
- 3. A, C, D, B, E
- 4. C, B, D, A, E

**Options :**

- 485584147681. 1
- 485584147682. 2
- 485584147683. 3
- 485584147684. 4

**Question Number : 177 Question Id : 48558436922 Question Type : MCQ Option Shuffling : No Is Question Mandatory : No Calculator : None Response Time : N.A Think Time : N.A Minimum Instruction Time : 0**

**Correct Marks : 5 Wrong Marks : 1**

**Question Key Details :**

Key	Value
Comprehension	MCQ

Arrange the following steps of controlling process in a correct sequence.

- A. Taking corrective action
- B. Setting performance standards
- C. Analysing deviations
- D. Measurement of actual performance
- E. Comparing actual performance with performance standard

Choose the correct answer from the options given below:

- 1. B, D, E, C, A
- 2. D, C, B, E, A
- 3. B, D, A, C, E
- 4. A, B, C, D, E

**Options :**

- 485584147685. 1
- 485584147686. 2
- 485584147687. 3
- 485584147688. 4

**Question Number : 177 Question Id : 48558436922 Question Type : MCQ Option Shuffling : No Is Question Mandatory : No Calculator : None Response Time : N.A Think Time : N.A Minimum Instruction Time : 0**

**Correct Marks : 5 Wrong Marks : 1**

**Question Key Details :**

Key	Value
Comprehension	MCQ

नियन्त्रण प्रक्रिया के निम्न चरणों को सही क्रम में व्यवस्थित करें।

- A. सही कार्य चुनना
- B. प्रमाणों का निष्पादन निश्चित करना
- C. विचलन विश्लेषण
- D. वास्तविक निष्पादन की मापना
- E. वास्तविक निष्पादन व प्रमाणित निष्पादन में तुलना करना

- 1. B, D, E, C, A
- 2. D, C, B, E, A
- 3. B, D, A, C, E
- 4. A, B, C, D, E

**Options :**

- 485584147685. 1
- 485584147686. 2
- 485584147687. 3
- 485584147688. 4

**Question Number : 178 Question Id : 48558436923 Question Type : MCQ Option Shuffling : No Is Question Mandatory : No Calculator : None Response Time : N.A Think Time : N.A Minimum Instruction Time : 0**

**Correct Marks : 5 Wrong Marks : 1**

**Question Key Details :**

Key	Value
Comprehension	MCQ

Arrange the following steps of staffing in a correct sequence.

- A. Recruitment
- B. Estimating manpower requirement
- C. Training and development
- D. Selection
- E. Placement and Orientation

Choose the correct answer from the options given below:

- 1. A, D, C, B, E
- 2. B, C, A, E, D
- 3. C, A, B, D, E
- 4. B, A, D, E, C

**Options :**

- 485584147689. 1
- 485584147690. 2
- 485584147691. 3
- 485584147692. 4

**Question Number : 178 Question Id : 48558436923 Question Type : MCQ Option Shuffling : No Is Question Mandatory : No Calculator : None Response Time : N.A Think Time : N.A Minimum Instruction Time : 0**

**Correct Marks : 5 Wrong Marks : 1**

**Question Key Details :**

Key	Value
Comprehension	MCQ

नियुक्तीकरण के निम्नलिखित चरणों को सही क्रम में व्यवस्थित करें:-

- A. भर्ती
- B. मानवशक्ति की आवश्यकता का अनुमान
- C. प्रशिक्षण एवं विकास
- D. चयन
- E. स्थान एवं अभिविन्यास

- 1. A, D, C, B, E
- 2. B, C, A, E, D
- 3. C, A, B, D, E
- 4. B, A, D, E, C

**Options :**

- 485584147689. 1
- 485584147690. 2
- 485584147691. 3
- 485584147692. 4

**Question Number : 179 Question Id : 48558436924 Question Type : MCQ Option Shuffling : No Is Question Mandatory : No Calculator : None Response Time : N.A Think Time : N.A Minimum Instruction Time : 0**

**Correct Marks : 5 Wrong Marks : 1**

**Question Key Details :**

Key	Value
Comprehension	MCQ

Arrange the following steps of organising process in a correct sequence.

- A. Departmentalisation
- B. Assignment of duties
- C. Identification and division of work
- D. Establishing reporting relationships

Choose the correct answer from the options given below:

- 1. A, D, B, C
- 2. C, B, A, D
- 3. B, C, D, A
- 4. C, A, B, D

**Options :**

- 485584147693. 1
- 485584147694. 2
- 485584147695. 3
- 485584147696. 4

**Question Number : 179 Question Id : 48558436924 Question Type : MCQ Option Shuffling : No Is Question Mandatory : No Calculator : None Response Time : N.A Think Time : N.A Minimum Instruction Time : 0 Correct Marks : 5 Wrong Marks : 1**

**Question Key Details :**

Key	Value
Comprehension	MCQ

निम्नलिखित को संगठनात्मक प्रक्रिया के रूप में सही क्रम में व्यवस्थित करें:

- A. विभागीकरण
- B. दायित्वों का नियंत्रीकरण
- C. कार्य की पहचान एवं विभाजन
- D. सूचना संतन्धों की स्थापना

- 1. A, D, B, C
- 2. C, B, A, D
- 3. B, C, D, A
- 4. C, A, B, D

**Options :**

- 485584147693. 1
- 485584147694. 2
- 485584147695. 3
- 485584147696. 4

**Question Number : 180 Question Id : 48558436925 Question Type : MCQ Option Shuffling : No Is Question Mandatory : No Calculator : None Response Time : N.A Think Time : N.A Minimum Instruction Time : 0 Correct Marks : 5 Wrong Marks : 1**

**Question Key Details :**

Key	Value
Comprehension	MCQ

Arrange the steps in the process of planning, in correct sequence:

- A. Developing premises
- B. Setting objectives
- C. Follow up action
- D. Selecting the best alternative
- E. Implementing the plan

Choose the correct answer from the options given below:

- 1. A, C, B, E, D
- 2. B, C, D, E, A
- 3. A, B, E, D, C
- 4. B, A, D, E, C

**Options :**

- 485584147697. 1
- 485584147698. 2
- 485584147699. 3
- 485584147700. 4

**Question Number : 180 Question Id : 48558436925 Question Type : MCQ Option Shuffling : No Is Question Mandatory : No Calculator : None Response Time : N.A Think Time : N.A Minimum Instruction Time : 0**

**Correct Marks : 5 Wrong Marks : 1**

**Question Key Details :**

Key	Value
Comprehension	MCQ

नियोजन प्रक्रिया के निम्न चरणों को सही क्रम में व्यवस्थित करें:

- A. विकासशील ढाँचा
- B. उद्देश्यों का निर्धारण
- C. कार्य की अनुवृत्ति
- D. उत्तम विकल्प का चयन
- E. योजना क्रियान्वयन

निम्नलिखित विकल्पों में से सही उत्तर का चयन कीजिए:

- 1. A, C, B, E, D
- 2. B, C, D, E, A
- 3. A, B, E, D, C
- 4. B, A, D, E, C

**Options :**

- 485584147697. 1
- 485584147698. 2
- 485584147699. 3
- 485584147700. 4

**Question Number : 181 Question Id : 48558436926 Question Type : MCQ Option Shuffling : No Is Question Mandatory : No Calculator : None Response Time : N.A Think Time : N.A Minimum Instruction Time : 0**

**Correct Marks : 5 Wrong Marks : 1**

**Question Key Details :**

Key	Value
Comprehension	MCQ

Which of the following is/are correct about coordination ?

- A. Coordination is the essence of management
- B. Coordination is a function of management
- C. Coordination is the responsibility of top level managers only
- D. Coordination is not a function of management
- E. Coordination is a deliberate function

Choose the correct answer from the options given below:

- 1. A, B and E only
- 2. A, D and E only
- 3. A, C and E only
- 4. A, B and E only

**Options :**

- 485584147701. 1
- 485584147702. 2
- 485584147703. 3
- 485584147704. 4

**Question Number : 181 Question Id : 48558436926 Question Type : MCQ Option Shuffling : No Is Question Mandatory : No Calculator : None Response Time : N.A Think Time : N.A Minimum Instruction Time : 0**

**Correct Marks : 5 Wrong Marks : 1**

**Question Key Details :**

Key	Value
Comprehension	MCQ

निम्नलिखित में से कौन सा/कोन से समन्वय के सम्बन्ध में सही है?

- A. समन्वय प्रबन्ध का सार है।
- B. समन्वय प्रबन्ध का कार्य है।
- C. समन्वय केवल उच्च पर्वन्धको का उत्तरदायित्व है।
- D. समन्वय प्रबन्ध का कार्य नहीं है।
- E. समन्वय एक विचारशील कार्य है।

निम्नलिखित विकल्पों में से सही उत्तर का चयन कीजिए:

- 1. केवल A, B और E
- 2. केवल A, D और E
- 3. केवल A, C और E
- 4. केवल A, B और E

**Options :**

- 485584147701. 1
- 485584147702. 2
- 485584147703. 3
- 485584147704. 4

**Question Number : 182 Question Id : 48558436927 Question Type : MCQ Option Shuffling : No Is Question Mandatory : No Calculator : None Response Time : N.A Think Time : N.A Minimum Instruction Time : 0**

**Correct Marks : 5 Wrong Marks : 1**

**Question Key Details :**

Key	Value
Comprehension	MCQ



Which of the following statements are related to dimensions of Business Environment?

- A. Political instability can shake the confidence among business people.
- B. Short and long term interest rates significantly affect the demand for product and services.
- C. Social trends such as health and fitness trend has created a demand for products like organic food, gyms etc.
- D. Advances in computers and electronics have not modified the ways in which companies advertise their products.
- E. Non compliance of Laws can land the business enterprise into legal problems.

Choose the correct answer from the options given below:

- 1. A, B, C and D only
- 2. B, C, D and E only
- 3. A, C, D and E only
- 4. A, B, C and E only

**Options :**

- 485584147705. 1
- 485584147706. 2
- 485584147707. 3
- 485584147708. 4

**Question Number : 182 Question Id : 48558436927 Question Type : MCQ Option Shuffling : No Is Question Mandatory : No Calculator : None Response Time : N.A Think Time : N.A Minimum Instruction Time : 0**

**Correct Marks : 5 Wrong Marks : 1**

**Question Key Details :**

Key	Value
Comprehension	MCQ

व्यवसायिक वातावरण के आयाम से संबंधित निम्न में से कौन सा वक्तव्य है?

- A. राजनीतिक अस्थिरता व्यवसायिक व्यक्तियों के विश्वास को डिगा देता है।
- B. लघु एवं दीर्घ व्याज दर की शर्त उल्लेखनीय रूप से उत्पाद व सेवा की मांग को प्रभावित करता है।
- C. सामाजिक प्रवृत्ति, जैसे. स्वास्थ्य और दुरुस्त प्रवृत्ति उत्पाद की मांग को बनाए रखती है जैसे जैविक खाद्य, जिम आदि।
- D. कम्प्यूटर और इलेक्ट्रॉनिक्स ने कम्पनियों के अपने उत्पाद के विज्ञापन की तरीकों को नहीं बदला है।
- E. कानून की अवमानना व्यवसायिक उपक्रम के लिए विधि समस्या बन सकती है।

निम्नलिखित विकल्पों में से सही उत्तर का चयन कीजिए

- 1. केवल A, B, C और D
- 2. केवल B, C, D और E
- 3. केवल A, C, D और E
- 4. केवल A, B, C और E

**Options :**

- 485584147705. 1
- 485584147706. 2
- 485584147707. 3
- 485584147708. 4

**Question Number : 183 Question Id : 48558436928 Question Type : MCQ Option Shuffling : No Is Question Mandatory : No Calculator : None Response Time : N.A Think Time : N.A Minimum Instruction Time : 0**

**Correct Marks : 5 Wrong Marks : 1**

**Question Key Details :**

Key	Value
-----	-------

Which of the following terms are related to Branding ?

- A. Packaging
- B. Trade Mark
- C. Brand
- D. Patent
- E. Brand Mark

Choose the correct answer from the options given below:

- 1. A, B and D only
- 2. D, B and C only
- 3. B, C and E only
- 4. C, A and E only

**Options :**

- 485584147709. 1
- 485584147710. 2
- 485584147711. 3
- 485584147712. 4

**Question Number : 183 Question Id : 48558436928 Question Type : MCQ Option Shuffling : No Is Question Mandatory : No Calculator : None Response Time : N.A Think Time : N.A Minimum Instruction Time : 0**

**Correct Marks : 5 Wrong Marks : 1**

**Question Key Details :**

Key	Value
Comprehension	MCQ

निम्नलिखित में से कौन सी मद ब्रांडिंग से संबंधित है?

- A. पैकेजिंग
- B. ट्रेडमार्क
- C. ब्रांड
- D. पेटेंट
- E. ब्रांड मार्क

निम्नलिखित विकल्पों में से सही उत्तर का चयन कीजिए

- 1. केवल A, B और D
- 2. केवल D, B और C
- 3. केवल B, C और E
- 4. केवल C, A और E

**Options :**

- 485584147709. 1
- 485584147710. 2
- 485584147711. 3
- 485584147712. 4

**Question Number : 184 Question Id : 48558436929 Question Type : MCQ Option Shuffling : No Is Question Mandatory : No Calculator : None Response Time : N.A Think Time : N.A Minimum Instruction Time : 0**

**Correct Marks : 5 Wrong Marks : 1**

**Question Key Details :**

Key	Value
Comprehension	MCQ

Shweta is working in ABC Ltd. for 9 years and over the years she has been promoted too. Shweta loves authority and challenge. She has passion for her job and applies her creativity in her company but expects recognition for every outstanding work. The company ABC Ltd. should consider what kind of motivators to make Shweta stay motivated?

- A. Pay and Allowances
- B. Productivity Linked Incentives
- C. Employee Participation
- D. Status
- E. Employee Recognition Programme

Choose the correct answer from the options given below:

1. A, B and C only
2. A, C and E only
3. C, D and E only
4. B, C and E only

**Options :**

- 485584147713. 1
- 485584147714. 2
- 485584147715. 3
- 485584147716. 4

**Question Number : 184 Question Id : 48558436929 Question Type : MCQ Option Shuffling : No Is Question Mandatory : No Calculator : None Response Time : N.A Think Time : N.A Minimum Instruction Time : 0**

**Correct Marks : 5 Wrong Marks : 1**

**Question Key Details :**

Key	Value
Comprehension	MCQ

श्वेता पिछले नौ वर्षों से ए. बी. सी. लि. में कार्य कर रही है। उन वर्षों में उसे प्रोन्नति दी गई है। वह अपने काम के प्रति सदा उत्साही है और अपनी रचनात्मकता का प्रयोग भी करती है किन्तु वह चाहती है कि उसके उत्कृष्ट कार्य को मान्यता मिले। ए. बी. सी. लि. कम्पनी इस पर विचार कर रही है कि किस प्रकार के अभिप्रेरक का प्रयोग कर श्वेता को अभिप्रेरित किया जाए।

- A. वेतन और भत्ते
- B. उत्पादकता मिलान प्रेरणाएँ
- C. कर्मचारी सहभागिता (भागीदारी)
- D. पद प्रतिष्ठा
- E. कर्मचारी पहचान कार्यक्रम

निम्नलिखित विकल्पों में से सही उत्तर का चयन कीजिए

1. केवल A, B और C
2. केवल A, C और E
3. केवल C, D और E
4. केवल B, C और E

**Options :**

- 485584147713. 1
- 485584147714. 2
- 485584147715. 3
- 485584147716. 4

Question Number : 185 Question Id : 48558436930 Question Type : MCQ Option Shuffling : No Is Question Mandatory : No Calculator : None Response Time : N.A Think Time : N.A Minimum Instruction Time : 0

Correct Marks : 5 Wrong Marks : 1

Question Key Details :

Key	Value
Comprehension	MCQ

To motivate her employees, Ms. Shanti Das, the production director uses a mix of incentives which involve offering a lumpsum amount over and above the salary, linking payment of wages to increase in productivity, offering company's shares at a set price lower than market price and contributing towards provident fund. Identify the incentives offered by her.

- A. Stock option
- B. Perquisites
- C. Retirement Benefits
- D. Bonus
- E. Profit sharing

Choose the correct answer from the options given below:

1. B, C and E only
2. A, C and D only
3. B, C, D and E only
4. C, D, A and B only

Options :

- 485584147717. 1
- 485584147718. 2
- 485584147719. 3
- 485584147720. 4

Question Number : 185 Question Id : 48558436930 Question Type : MCQ Option Shuffling : No Is Question Mandatory : No Calculator : None Response Time : N.A Think Time : N.A Minimum Instruction Time : 0

Correct Marks : 5 Wrong Marks : 1

Question Key Details :

Key	Value
Comprehension	MCQ

श्रीमति शांति दास एक उत्पादन निर्देशक रही। वह अपने कर्मचारियों को अभिप्रेरित करने के लिए मिश्रित प्रेरणाओं का प्रयोग करती है। जिसमें शामिल है एकमुश्त के लिए राशी का प्रयोग जो वेतन के अतिरिक्त है, उत्पादकता वृद्धि के अनुसार भूगतान, कर्मचारियों को बाजार मूल्य से कम मूल्य पर शेयर प्रदान करना, और भविष्य निधि में अंशदान करके उनके द्वारा प्रदत्त प्रेरणाओं को पहचानिए:

- A. पूंजीविकल्प
- B. अनुलाभ
- C. सेवानिवृत्ति लाभ
- D. बोनस
- E. लाभ-भागिता

निम्नलिखित विकल्पों में से सही उत्तर का चयन कीजिए:

1. केवल B, C और E
2. केवल A, C और D
3. केवल B, C, D और E
4. केवल C, D, A और B

Options :

485584147717. 1  
485584147718. 2  
485584147719. 3  
485584147720. 4

Question Number : 186 Question Id : 48558436931 Question Type : MCQ Option Shuffling : No Is Question Mandatory : No Calculator : None  
Response Time : N.A Think Time : N.A Minimum Instruction Time : 0

Correct Marks : 5 Wrong Marks : 1

Question Key Details :

Key	Value
Comprehension	MCQ

Match List I with List II

LIST I		LIST II	
A.	Right to have complete information about product	I.	Right to be assured/choose
B.	Get relief against unfair trade practice	II.	Right to be informed
C.	Freedom to access variety of products	III.	Right to be protected/safety
D.	To be protected against goods & services which are hazardous	IV.	Right to seek redressal

Choose the correct answer from the options given below:

1. A-II B-IV C-I D-III
2. A-III B-IV C-I D-II
3. A-II B-IV C-III D-I
4. A-I B-II C-III D-IV

Options :

485584147721. 1  
485584147722. 2  
485584147723. 3  
485584147724. 4

Question Number : 186 Question Id : 48558436931 Question Type : MCQ Option Shuffling : No Is Question Mandatory : No Calculator : None  
Response Time : N.A Think Time : N.A Minimum Instruction Time : 0

Correct Marks : 5 Wrong Marks : 1

Question Key Details :

Key	Value
Comprehension	MCQ

सूची I का सूची II से मिलान कीजिए

सूची I		सूची II	
A.	उत्पाद के बारे में पूर्ण सूचना पाने का अधिकार	I.	आशुस्त/चुनने का अधिकार
B.	अनुचित व्यापार व्यवहार के विरुद्ध राहत का अधिकार	II.	सूचना का अधिकार
C.	विभिन्न उत्पादों को जाँचने की स्वतन्त्रता	III.	संरक्षण/सुरक्षा का अधिकार
D.	नुकसानदेह वस्तु व सेवाओं के विरुद्ध संरक्षण	IV.	उपचार का अधिकार

निम्नलिखित विकल्पों में से सही उत्तर का चयन कीजिए :

1. A-II B-IV C-I D-III
2. A-III B-IV C-I D-II
3. A-II B-IV C-III D-I
4. A-I B-II C-III D-IV

Options :

485584147721. 1  
485584147722. 2  
485584147723. 3  
485584147724. 4

Question Number : 187 Question Id : 48558436932 Question Type : MCQ Option Shuffling : No Is Question Mandatory : No Calculator : None  
Response Time : N.A Think Time : N.A Minimum Instruction Time : 0

Correct Marks : 5 Wrong Marks : 1

Question Key Details :

Key	Value
Comprehension	MCQ

Match List I with List II

LIST I		LIST II	
A. Primary Market	I.	Deals in Existing Securities	
B. Secondary Market	II.	Keeps Securities in Electronic Form	
C. SEBI	III.	Deals in New Issue of Securities	
D. Depository	IV.	Ensures orderly growth of Securities Market	

Choose the correct answer from the options given below:

1. A-I, B-II, C-III, D-IV
2. A-I, B-III, C-IV, D-II
3. A-III, B-I, C-IV, D-II
4. A-III, B-I, C-II, D-IV

Options :

485584147725. 1  
485584147726. 2  
485584147727. 3  
485584147728. 4

Question Number : 187 Question Id : 48558436932 Question Type : MCQ Option Shuffling : No Is Question Mandatory : No Calculator : None  
Response Time : N.A Think Time : N.A Minimum Instruction Time : 0

Correct Marks : 5 Wrong Marks : 1

Question Key Details :

Key	Value
Comprehension	MCQ

सूची I का सूची II से मिलान कीजिए

सूची I		सूची II	
A. प्राथमिक बाजार	I.	पहले उपलब्ध प्रतिभूति के सौदे करना	
B. गौण बाजार	II.	प्रतिभूतियों को इलेक्ट्रॉनिक रूप में रखना	
C. SEBI	III.	नई जारी प्रतिभूतियों का व्यवहार करना/सौदे करनी	
D. जमाकर्ता	IV.	प्रतिभूति बाजार का व्यवस्थित वृद्धि सुनिश्चित करना	

निम्नलिखित विकल्पों में से सही उत्तर का चयन कीजिए :

1. A-I, B-II, C-III, D-IV
2. A-I, B-III, C-IV, D-II
3. A-III, B-I, C-IV, D-II
4. A-III, B-I, C-II, D-IV

Options :

485584147725. 1  
485584147726. 2  
485584147727. 3  
485584147728. 4

Question Number : 188 Question Id : 48558436933 Question Type : MCQ Option Shuffling : No Is Question Mandatory : No Calculator : None  
Response Time : N.A Think Time : N.A Minimum Instruction Time : 0

Correct Marks : 5 Wrong Marks : 1

Question Key Details :

Key	Value
Comprehension	MCQ

Match List I with List II

LIST I		LIST II	
A.	Visit to Udupur	I.	Ideas
B.	Information on Technology	II.	Place
C.	Fashion Show	III.	Events
D.	Family Planning	IV.	Information

Choose the correct answer from the options given below:

1. A-I, B-II, C-III, D-IV
2. A-II, B-III, C-IV, D-I
3. A-I, B-III, C-IV, D-II
4. A-II, B-IV, C-III, D-I

Options :

485584147729. 1  
485584147730. 2  
485584147731. 3  
485584147732. 4

Question Number : 188 Question Id : 48558436933 Question Type : MCQ Option Shuffling : No Is Question Mandatory : No Calculator : None  
Response Time : N.A Think Time : N.A Minimum Instruction Time : 0

Correct Marks : 5 Wrong Marks : 1

Question Key Details :

Key	Value
Comprehension	MCQ

सूची I का सूची II से मिलान कीजिए

सूची I		सूची II	
A.	उदयपुर जाना	I.	विचार
B.	तकनीक पर सूचना	II.	स्थान
C.	फैशन शो	III.	आयोजन
D.	परिवार नियोजन	IV.	सूचना

निम्नलिखित विकल्पों में से सही उत्तर का चयन कीजिए :

1. A-I, B-II, C-III, D-IV
2. A-II, B-III, C-IV, D-I
3. A-I, B-III, C-IV, D-II
4. A-II, B-IV, C-III, D-I

Options :

485584147729. 1  
485584147730. 2  
485584147731. 3  
485584147732. 4

Question Number : 189 Question Id : 48558436934 Question Type : MCQ Option Shuffling : No Is Question Mandatory : No Calculator : None  
Response Time : N.A Think Time : N.A Minimum Instruction Time : 0

Correct Marks : 5 Wrong Marks : 1

Question Key Details :

Key	Value
Comprehension	MCQ

Match List I with List II

LIST I		LIST II	
A.	Minimise employee turnover	I.	Remuneration of Employees
B.	One boss for every employee	II.	Stability of Personnel
C.	Fair wages	III.	Unity of Command
D.	Suitable and fixed places for people and material	IV.	Order

Choose the correct answer from the options given below:

1. A-II, B-I, C-III, D-IV
2. A-II, B-III, C-I, D-IV
3. A-I, B-II, C-III, D-IV
4. A-IV, B-II, C-III, D-I

Options :

485584147733. 1  
485584147734. 2  
485584147735. 3  
485584147736. 4

Question Number : 189 Question Id : 48558436934 Question Type : MCQ Option Shuffling : No Is Question Mandatory : No Calculator : None  
Response Time : N.A Think Time : N.A Minimum Instruction Time : 0

Correct Marks : 5 Wrong Marks : 1

Question Key Details :

Key	Value
Comprehension	MCQ

सूची I का सूची II से मिलान कीजिए

सूची I		सूची II	
A.	भ्रमपरिवर्तन दर को कम करना	I.	कर्मचारियों का प्रारि श्रमिक
B.	प्रत्येक कर्मचारी के लिए एक बॉस (Boss)	II.	कर्मचारियों में स्थायित्व
C.	उचित मजदूरी	III.	आदेश की एकता
D.	व्यक्ति व सामग्री के लिए उपयुक्त व निश्चित स्थान	IV.	व्यवस्था

निम्नलिखित विकल्पों में से सही उत्तर का चयन कीजिए :

1. A-II, B-I, C-III, D-IV
2. A-II, B-III, C-I, D-IV
3. A-I, B-II, C-III, D-IV
4. A-IV, B-II, C-III, D-I

Options :



485584147733. 1  
485584147734. 2  
485584147735. 3  
485584147736. 4

Question Number : 190 Question Id : 48558436935 Question Type : MCQ Option Shuffling : No Is Question Mandatory : No Calculator : None  
Response Time : N.A Think Time : N.A Minimum Instruction Time : 0

Correct Marks : 5 Wrong Marks : 1

Question Key Details :

Key	Value
Comprehension	MCQ

Match the 'basis' in List I with the 'features of entrepreneurship' in List II

LIST I Basis		LIST II Features of Entrepreneurship	
A.	Approach to the task	I.	Challenges the status quo, that is, the existing
B.	Innovation Orientation	II.	Achievement
C.	Approach to decision-making	III.	Informal
D.	Primary motivation	IV.	Driven by inductive logic and personal courage and determination

Choose the correct answer from the options given below;

1. A-IV, B-I, C-III, D-II
2. A-IV, B-II, C-III, D-I
3. A-III, B-I, C-IV, D-II
4. A-III, B-I, C-II, D-IV

Options :

485584147737. 1  
485584147738. 2  
485584147739. 3  
485584147740. 4

Question Number : 190 Question Id : 48558436935 Question Type : MCQ Option Shuffling : No Is Question Mandatory : No Calculator : None  
Response Time : N.A Think Time : N.A Minimum Instruction Time : 0

Correct Marks : 5 Wrong Marks : 1

Question Key Details :

Key	Value
Comprehension	MCQ

सूची I का सूची II से मिलान कीजिए

सूची I		सूची II	
A.	कार्य के प्रति दृष्टिकोण	I.	चुनौतियों पहले अनुसार बना रहना
B.	नवचार अभिविन्यास	II.	उपलब्धी
C.	निर्णय संबंधी दृष्टिकोण	III.	अनौपचारिक
D.	प्राथमिक अभिप्रेरणा	IV.	आगात्मक तर्क, व्यक्तिगत साहस एवं दृढ़ निश्चय द्वारा संवर्तित

निम्नलिखित विकल्पों में से सही उत्तर का चयन कीजिए :

1. A-IV, B-I, C-III, D-II
2. A-IV, B-II, C-III, D-I
3. A-III, B-I, C-IV, D-II
4. A-III, B-I, C-II, D-IV

**Options :**

485584147737. 1  
485584147738. 2  
485584147739. 3  
485584147740. 4

**Sub-Section Number :** 2  
**Sub-Section Id :** 4855842793  
**Question Shuffling Allowed :** No  
**Is Section Default? :** null

**Question Number : 191 Question Id : 48558436936 Question Type : MCQ Option Shuffling : No Is Question Mandatory : No Calculator : None Response Time : N.A Think Time : N.A Minimum Instruction Time : 0**

**Correct Marks : 5 Wrong Marks : 1**

**Question Key Details :**

Key	Value
Comprehension	Comp1

Read the following case study and answer the question:

Star limited has been a leading giant in making cost friendly bikes for youth. The credit for the same can be given to CEO Mr. Prakash for keeping crucial decision making authority to himself only. He follows formal lines of authority from highest to lowest for operations and communication. Despite such formal organisational structure company was running effectively. In the last few years, it was observed that people taste towards bikes has changed and they have started liking scooties with stylish designs. Moreover, Government is also stressing upon E-vehicle for sustainability and eco-friendliness and thus imposing high taxes on production of petrol and diesel vehicles. Mr. Prakash organises a meeting to discuss the future plan with other top managers of the company.

Mr Prakash, the CEO keeps the crucial decision making power to himself only. Which principle of management depicts this ?

1. Initiative
2. Authority
3. Centralisation and Decentralisation
4. Scalar chain

**Options :**

485584147741. 1  
485584147742. 2  
485584147743. 3  
485584147744. 4

**Question Number : 191 Question Id : 48558436936 Question Type : MCQ Option Shuffling : No Is Question Mandatory : No Calculator : None Response Time : N.A Think Time : N.A Minimum Instruction Time : 0**

**Correct Marks : 5 Wrong Marks : 1**

**Question Key Details :**

Key	Value
Comprehension	Comp1

निम्न मामला अध्ययन को पढ़ें व प्रश्न का उत्तर दें

स्टार लिमिटेड, युवाओं के लिए अनुकूल लागत पर बाईक बनाने वाली कम्पनी है। इसका सारा श्रेय CEO श्री प्रकाश को उनके स्वयं के महत्वपूर्ण निर्णयों के लिए दिया जा सकता है। उन्होंने औपचारिक अधिकार रेखा को अपनाया जो उच्च से निम्न की ओर संचालित व संचारित थी। इसके बावजूद कम्पनी इस औपचारिक संगठनात्मक ढाँचे को प्रभावी ढंग से चली रही है। पिछले कुछ वर्षों में ऐसा पाया गया कि लोगों का बाईक के प्रति रुचि बढ़ती है और वे स्टाईलिश स्कूटी से जुड़ रहे हैं। इसके अतिरिक्त सरकार भी पर्यावरण मित्रता के चलते उसने E व्हीकल पर जोर देना शुरू किया है और पेट्रोल व डीजल वाहन पर ज्यादा कर लगा रही है। श्री प्रकाश ने भविष्य की योजना पर विचार करने हेतु अन्य उच्च प्रबन्धकों के साथ एक बैठक का आयोजन किया।

श्री प्रकाश CEO जो केवल स्वयं ही महत्वपूर्ण निर्णय लेने की शक्ति रखते हैं। यह प्रबन्ध के किस सिद्धान्त को दर्शाता है?

1. पहल
2. अधिकार
3. केन्द्रीकरण और विकेन्द्रीकरण
4. सोपान श्रृंखला

**Options :**

485584147741. 1  
485584147742. 2  
485584147743. 3  
485584147744. 4

**Question Number : 192 Question Id : 48558436937 Question Type : MCQ Option Shuffling : No Is Question Mandatory : No Calculator : None Response Time : N.A Think Time : N.A Minimum Instruction Time : 0**

**Correct Marks : 5 Wrong Marks : 1**

**Question Key Details :**

Key	Value
Comprehension	Compl

Read the following case study and answer the question:

Star limited has been a leading giant in making cost friendly bikes for youth. The credit for the same can be given to CEO Mr. Prakash for keeping crucial decision making authority to himself only. He follows formal lines of authority from highest to lowest for operations and communication. Despite such formal organisational structure company was running effectively. In the last few years, it was observed that people taste towards bikes has changed and they have started liking scooties with stylish designs. Moreover, Government is also stressing upon E-vehicle for sustainability and eco-friendliness and thus imposing high taxes on production of petrol and diesel vehicles. Mr. Prakash organises a meeting to discuss the future plan with other top managers of the company.

In Star limited a formal organisational structure is followed where formal lines of authority from highest to lowest for operations and communication is followed. Identify the principle of management followed in the company.

1. Scalar Chain
2. Centralisation
3. Decentralisation
4. Authority

**Options :**

485584147745. 1  
485584147746. 2

485584147747. 3  
485584147748. 4

**Question Number : 192 Question Id : 48558436937 Question Type : MCQ Option Shuffling : No Is Question Mandatory : No Calculator : None**  
**Response Time : N.A Think Time : N.A Minimum Instruction Time : 0**

**Correct Marks : 5 Wrong Marks : 1**

**Question Key Details :**

Key	Value
Comprehension	Comp1

निम्न मामला अध्ययन को पढ़ें व प्रश्न का उत्तर दें

स्टार लिमिटेड, युवाओं के लिए अनुकूल लागत पर बाईक बनाने वाली कम्पनी है। इसका सारा श्रेय CEO श्री प्रकाश को उनके स्वयं के महत्वपूर्ण निर्णयों के लिए दिया जा सकता है। उन्होंने औपचारिक अधिकार रेखा को अपनाया जो उच्च से निम्न की ओर संचालित व संचारित थी। इसके बावजूद कम्पनी इस औपचारिक संगठनात्मक ढाँचे को प्रभावी ढंग से चली रही है। पिछले कुछ वर्षों में ऐसा पाया गया कि लोगों का बाईक के प्रति रुचि बढ़ती है और वे स्टाईलिश स्कूटी से जुड़ रहे हैं। इसके अतिरिक्त सरकार भी पर्यावरण मित्रता के चलते उसने E व्हीकल पर जोर देना शुरू किया है और पेट्रोल व डीजल वाहन पर ज्यादा कर लगा रही है। श्री प्रकाश ने भविष्य की योजना पर विचार करने हेतु अन्य उच्च प्रबन्धकों के साथ एक बैठक का आयोजन किया।

स्टार लिमिटेड ने औपचारिक संगठनात्मक ढाँचे को अपनाया जहाँ औपचारिक रेखा उच्च से निम्न की ओर क्रियान्वयन और सम्प्रेक्षण होता है।

कम्पनी द्वारा प्रबन्ध के किस सिद्धांत को अपनाया गया पहचानिए

1. सोपान श्रृंखला
2. केन्द्रीयकरण
3. विकेन्द्रीकरण
4. अधिकार

**Options :**

485584147745. 1  
485584147746. 2  
485584147747. 3  
485584147748. 4

**Question Number : 193 Question Id : 48558436938 Question Type : MCQ Option Shuffling : No Is Question Mandatory : No Calculator : None**  
**Response Time : N.A Think Time : N.A Minimum Instruction Time : 0**

**Correct Marks : 5 Wrong Marks : 1**

**Question Key Details :**

Key	Value
Comprehension	Comp1

Read the following case study and answer the question:

Star limited has been a leading giant in making cost friendly bikes for youth. The credit for the same can be given to CEO Mr. Prakash for keeping crucial decision making authority to himself only. He follows formal lines of authority from highest to lowest for operations and communication. Despite such formal organisational structure company was running effectively. In the last few years, it was observed that people taste towards bikes has changed and they have started liking scooties with stylish designs. Moreover, Government is also stressing upon E-vehicle for sustainability and eco-friendliness and thus imposing high taxes on production of petrol and diesel vehicles. Mr. Prakash organises a meeting to discuss the future plan with other top managers of the company.

In the recent years, Company felt the change in taste of people towards bikes and preference towards stylish scooters. What type of business environment change the Company is dealing with ?

1. Legal
2. Social
3. Technological
4. Political

**Options :**

485584147749. 1  
485584147750. 2  
485584147751. 3  
485584147752. 4

**Question Number : 193 Question Id : 48558436938 Question Type : MCQ Option Shuffling : No Is Question Mandatory : No Calculator : None Response Time : N.A Think Time : N.A Minimum Instruction Time : 0**

**Correct Marks : 5 Wrong Marks : 1**

**Question Key Details :**

Key	Value
Comprehension	Compl

निम्न मामला अध्ययन को पढ़ें व प्रश्न का उत्तर दें

स्टार लिमिटेड, युवाओं के लिए अनुकूल लागत पर बाईक बनाने वाली कम्पनी है। इसका सारा श्रेय CEO श्री प्रकाश को उनके स्वयं के महत्त्वपूर्ण निर्णयों के लिए दिया जा सकता है। उन्होंने औपचारिक अधिकार रेखा को अपनाया जो उच्च से निम्न की ओर संचालित व संचारित थी। इसके बावजूद कम्पनी इस औपचारिक संगठनात्मक ढाँचे को प्रभावी ढंग से चली रही है। पिछले कुछ वर्षों में ऐसा पाया गया कि लोगों का बाईक के प्रति रुचि बढ़ती है और वे स्टाईलिश स्कूटी से जुड़ रहे हैं। इसके अतिरिक्त सरकार भी पर्यावरण मित्रता के चलते उसने E व्हीकल पर जोर देना शुरू किया है और पेट्रोल व डीजल वाहन पर ज्यादा कर लगा रही है। श्री प्रकाश ने भविष्य की योजना पर विचार करने हेतु अन्य उच्च प्रबंधकों के साथ एक बैठक का आयोजन किया।

पिछले कुछ वर्षों में कम्पनी ने ऐसी महसूस किया कि लोगों की रुची बदली है। और वे स्टाईलिस स्कूटी से जुड़ रहे हैं। कम्पनी किस प्रकार के व्यवसायिक पर्यावरण के बदलाव के साथ व्यवहारित है?

1. वैज्ञानिक
2. सामाजिक
3. तकनीक
4. राजनीतिक

**Options :**

485584147749. 1  
485584147750. 2  
485584147751. 3  
485584147752. 4

**Question Number : 194 Question Id : 48558436939 Question Type : MCQ Option Shuffling : No Is Question Mandatory : No Calculator : None Response Time : N.A Think Time : N.A Minimum Instruction Time : 0**

**Correct Marks : 5 Wrong Marks : 1**

**Question Key Details :**

Key	Value
Comprehension	Compl

Read the following case study and answer the question:

Star limited has been a leading giant in making cost friendly bikes for youth. The credit for the same can be given to CEO Mr. Prakash for keeping crucial decision making authority to himself only. He follows formal lines of authority from highest to lowest for operations and communication. Despite such formal organisational structure company was running effectively. In the last few years, it was observed that people taste towards bikes has changed and they have started liking scooties with stylish designs. Moreover, Government is also stressing upon E-vehicle for sustainability and eco-friendliness and thus imposing high taxes on production of petrol and diesel vehicles. Mr. Prakash organises a meeting to discuss the future plan with other top managers of the company.

"Apart from changing preferences of people, Government is also changing outlook towards petrol and diesel run vehicles and imposing high taxes on their production and sales." What business environment dimension is this?

1. Political
2. Social
3. Technological
4. Legal

Options :

485584147753. 1  
485584147754. 2  
485584147755. 3  
485584147756. 4

Question Number : 194 Question Id : 48558436939 Question Type : MCQ Option Shuffling : No Is Question Mandatory : No Calculator : None Response Time : N.A Think Time : N.A Minimum Instruction Time : 0

Correct Marks : 5 Wrong Marks : 1

Question Key Details :

Key	Value
Comprehension	Comp1

निम्न मामला अध्ययन को पढ़ें व प्रश्न का उत्तर दें

स्टार लिमिटेड, युवाओं के लिए अनुकूल लागत पर बाईक बनाने वाली कम्पनी है। इसका सारा श्रेय CEO श्री प्रकाश को उनके स्वयं के महत्वपूर्ण निर्णयों के लिए दिया जा सकता है। उन्होंने औपचारिक अधिकार रेखा को अपनाया जो उच्च से निम्न की ओर संचालित व संचारित थी। इसके बावजूद कम्पनी इस औपचारिक संगठनात्मक ढाँचे को प्रभावी ढंग से चली रही है। पिछले कुछ वर्षों में ऐसा पाया गया कि लोगों का बाईक के प्रति रुचि बदली है और वे स्टाईलिश स्कूटी से जुड़ रहे हैं। इसके अतिरिक्त सरकार भी पर्यावरण मित्रता के चलते उसने E व्हीकल पर जोर देना शुरू किया है और पेट्रोल व डीजल वाहन पर ज्यादा कर लगा रही है। श्री प्रकाश ने भविष्य की योजना पर विचार करने हेतु अन्य उच्च प्रबंधकों के साथ एक बैठक का आयोजन किया।

"लोगो की प्राथमिकता में बदलाव, सरकार का भी दृष्टिकोण पेट्रोल डीजल वाले परिवहन के लिए बदला है। आरे उसने उनके उत्पादन और विक्री पर उच्च कर लगा रही है।" इसमें व्यवसायिक पर्यावरण कौन सा आयाम है?

1. राजनीतिक
2. सामाजिक
3. तकनीकी
4. वैधानिक

Options :

485584147753. 1

485584147754. 2  
485584147755. 3  
485584147756. 4

**Question Number : 195 Question Id : 48558436940 Question Type : MCQ Option Shuffling : No Is Question Mandatory : No Calculator : None**  
**Response Time : N.A Think Time : N.A Minimum Instruction Time : 0**

**Correct Marks : 5 Wrong Marks : 1**

**Question Key Details :**

Key	Value
Comprehension	Comp1

Read the following case study and answer the question:

Star limited has been a leading giant in making cost friendly bikes for youth. The credit for the same can be given to CEO Mr. Prakash for keeping crucial decision making authority to himself only. He follows formal lines of authority from highest to lowest for operations and communication. Despite such formal organisational structure company was running effectively. In the last few years, it was observed that people taste towards bikes has changed and they have started liking scooties with stylish designs. Moreover, Government is also stressing upon E-vehicle for sustainability and eco-friendliness and thus imposing high taxes on production of petrol and diesel vehicles. Mr. Prakash organises a meeting to discuss the future plan with other top managers of the company.

The company follows formal lines of authority for operation and communication. This may lead to delayed communication many a times. In emergent situation how two persons can contact directly?

1. Through Salar Chain
2. Through Gang Pank
3. Through Decentralisation
4. Through Delegation

**Options :**

485584147757. 1  
485584147758. 2  
485584147759. 3  
485584147760. 4

**Question Number : 195 Question Id : 48558436940 Question Type : MCQ Option Shuffling : No Is Question Mandatory : No Calculator : None**  
**Response Time : N.A Think Time : N.A Minimum Instruction Time : 0**

**Correct Marks : 5 Wrong Marks : 1**

**Question Key Details :**

Key	Value
Comprehension	Comp1

निम्न मामला अध्ययन को पढ़ें व प्रश्न का उत्तर दें

स्टार लिमिटेड, युवाओं के लिए अनुकूल लागत पर बाईक बनाने वाली कम्पनी है। इसका सारा श्रेय CEO श्री प्रकाश को उनके स्वयं के महत्वपूर्ण निर्णयों के लिए दिया जा सकता है। उन्होंने औपचारिक अधिकार रेखा को अपनाया जो उच्च से निम्न की ओर संचालित व संचारित थी। इसके बावजूद कम्पनी इस औपचारिक संगठनात्मक ढाँचे को प्रभावी ढंग से चली रही है। पिछले कुछ वर्षों में ऐसा पाया गया कि लोगों का बाईक के प्रति रुचि बदली है और वे स्टाईलिश स्कूटी से जुड़ रहे हैं। इसके अतिरिक्त सरकार भी पर्यावरण मित्रता के चलते उसने E व्हीकल पर जोर देना शुरू किया है और पेट्रोल व डीजल वाहन पर ज्यादा कर लगा रही है। श्री प्रकाश ने भविष्य की योजना पर विचार करने हेतु अन्य उच्च प्रबंधकों के साथ एक बैठक का आयोजन किया।

कम्पनी संचालन व सम्प्रेषण के लिए औपचारिक अधिकार रेखा का प्रयोग करती है। कई बार यह सम्प्रेषण में देरी करता है किसी आविष्मक परिस्थिति में कैसे दो व्यक्ति आपस में सीधे जुड़ सकते है?

1. सोपान श्रृंखला द्वारा
2. समतल सम्पर्क (गैंग प्लॉक) द्वारा
3. विकेन्द्रीकरण द्वारा
4. अधिकार उन्तरण द्वार

**Options :**

485584147757. 1  
485584147758. 2  
485584147759. 3  
485584147760. 4

**Sub-Section Number :** 3  
**Sub-Section Id :** 4855842794  
**Question Shuffling Allowed :** No  
**Is Section Default? :** null

**Question Number :** 196 **Question Id :** 48558436941 **Question Type :** MCQ **Option Shuffling :** No **Is Question Mandatory :** No **Calculator :** None  
**Response Time :** N.A **Think Time :** N.A **Minimum Instruction Time :** 0

**Correct Marks :** 5 **Wrong Marks :** 1

**Question Key Details :**

Key	Value
Comprehension	Comp2

Study the following case study, answer the question:

Khanna Prakashan is a reputed publishing house. They wanted to expand and diversify. On studying the business environment they found that none of the publishers have their own printing press. So they decided to start their own printing press. For this they would require an investment of Rs. 75 lakhs. On studying the capital market and looking at the boom condition, they decided to issue equity shares only for raising funds. For this purpose they issued a prospectus. Issuing shares involves huge floatation costs, which would hamper their cash flow position for at least 6 months. To meet the floatation cost, they decided to approach the money market and opted for the instrument which would help in bridge financing.

They decided to invest in a highly sophisticated machinery for their printing press. This machinery was selected after considering factors like earning capacity and rate of return, investment criteria involved etc.

"On studying the environment they found that no publishers have their own printing press. So they decided to start their own." Which point of importance of studying environment is highlighted here?

1. Helps in identifying threats
2. Enables to identify opportunities & get the first move advantage
3. Helps in coping with rapid changes
4. Helps in tapping useful resources

**Options :**

485584147761. 1  
485584147762. 2  
485584147763. 3  
485584147764. 4

**Question Number :** 196 **Question Id :** 48558436941 **Question Type :** MCQ **Option Shuffling :** No **Is Question Mandatory :** No **Calculator :** None  
**Response Time :** N.A **Think Time :** N.A **Minimum Instruction Time :** 0

**Correct Marks :** 5 **Wrong Marks :** 1



**Question Key Details :**

Key	Value
Comprehension	Comp2

दिए गए मामले का अध्ययन करें एवं प्रश्न का उत्तर दें।

खन्ना प्रकाशन एक प्रतिष्ठित पब्लिशिंग हाउस है। वे विविधता व विस्तार चाहते हैं। व्यवसायिक वातावरण का अध्ययन करने के पश्चात उन्होंने पाया कि किसी भी प्रकाशक के पास अपनी मुद्रण मशीन नहीं है। उन्होंने निर्णय किया कि वे अपनी प्रिंटिंग प्रेस शुरू करेंगे। उसके लिए उन्हें 75 लाख की निवेश की आवश्यकता होगी। पूंजी बाजार के अध्ययन करने पर देखा गया कि वह उछाल की स्थिति में है। उन्होंने निर्णय लिया कि वे कोष की बढ़ाने के लिए केवल समता अंश जारी करेंगे। इस उद्देश्य से उन्होंने प्रविवरण पत्र जारी किया। शेयर जारी करने पर बड़ी मात्रा में निर्गमन लागत आई। छः माह उनके नकद प्रवाह स्थिति में बाधा आया। उन्होंने निर्णय किया कि वे मुद्रा बाजार की ओर जाएंगे और उसने सेपुवित्तियन को एक घन्टा के रूप में चुना।

उन्होंने निर्णय किया कि वे अपनी प्रिंटिंग प्रेस के लिए एक उच्च परिष्कृत में निवेश करेंगे इस मशीन का चुनाव निम्न बिन्दुओं पर विचार करके लिया गया, जैसे उपर्जन क्षमता, प्रतिफल की दर, निवेश के मापदंड आदि।

"वातावरण का अध्ययन करने के पश्चात उन्होंने पाया कि किसी भी प्रकाशक के पास अपनी मुद्रण मशीन नहीं है। तो उन्होंने निर्णय किया कि वे अपनी प्रिंटिंग प्रेस शुरू करेंगे।" वातावरण के अध्ययन के किस महत्व को यहाँ दर्शाया गया है?

1. संकट की पहचान में सहायता
2. अवसर की पहचान में सक्षमता और पहल करने का लाभ
3. तेजी से बदलाव करने में सहायक
4. ससाधनों के कुशल प्रयोग में सहायता

**Options :**

485584147761. 1  
485584147762. 2  
485584147763. 3  
485584147764. 4

**Question Number : 197 Question Id : 48558436942 Question Type : MCQ Option Shuffling : No Is Question Mandatory : No Calculator : None Response Time : N.A Think Time : N.A Minimum Instruction Time : 0**

**Correct Marks : 5 Wrong Marks : 1**

**Question Key Details :**

Key	Value
Comprehension	Comp2

Study the following case study, answer the question:

Khanna Prakashan is a reputed publishing house. They wanted to expand and diversify. On studying the business environment they found that none of the publishers have their own printing press. So they decided to start their own printing press. For this they would require an investment of Rs. 75 lakhs. On studying the capital market and looking at the boom condition, they decided to issue equity shares only for raising funds. For this purpose they issued a prospectus. Issuing shares involves huge floatation costs, which would hamper their cash flow position for at least 6 months. To meet the floatation cost, they decided to approach the money market and opted for the instrument which would help in bridge financing.

They decided to invest in a highly sophisticated machinery for their printing press. This machinery was selected after considering factors like earning capacity and rate of return, investment criteria involved etc.

To expand and diversify, they decided to run a printing press along with their publishing house. Which Organisational structure will be suitable for them?

1. Functional structure
2. Formal organisation
3. Informal organisation
4. Divisional structure

**Options :**

485584147765. 1  
485584147766. 2  
485584147767. 3  
485584147768. 4

**Question Number : 197 Question Id : 48558436942 Question Type : MCQ Option Shuffling : No Is Question Mandatory : No Calculator : None Response Time : N.A Think Time : N.A Minimum Instruction Time : 0**

**Correct Marks : 5 Wrong Marks : 1**

**Question Key Details :**

Key	Value
Comprehension	Comp2

दिए गए मामले का अध्ययन करें एवं प्रश्न का उत्तर दें।

खन्ना प्रकाशन एक प्रतिष्ठित पब्लिशिंग हाउस है। वे विविधता व विस्तार चाहते हैं। व्यवसायिक वातावरण का अध्ययन करने के पश्चात उन्होंने पाया कि किसी भी प्रकाशक के पास अपनी मुद्रण मशीन नहीं है। उन्होंने निर्णय किया कि वे अपनी प्रिंटिंग प्रेस शुरू करेंगे। उसके लिए उन्हें 75 लाख की निवेश की आवश्यकता होगी। पूंजी बाजार के अध्ययन करने पर देखा गया कि वह उछाल की स्थिति में है। उन्होंने निर्णय लिया कि वे कोष की बढ़ाने के लिए केवल समता अंश जारी करेंगे। इस उद्देश्य से उन्होंने प्रविवरण पत्र जारी किया। शेयर जारी करने पर बड़ी मात्रा में निर्गमन लागत आई। छः माह उनके नकद प्रवाह स्थिति में बाधा आया। उन्होंने निर्णय किया कि वे मुद्रा बाजार की ओर जाएंगे और उसने सेपुवित्तियन को एक पन्ल के रूप में चुना।

उन्होंने निर्णय किया कि वे अपनी प्रिंटिंग प्रेस के लिए एक उच्च परिष्कृत में निवेश करेंगे इस मशीन का चुनाव निम्न बिन्दुओं पर विचार करके लिया गया, जैसे उपर्जन क्षमता, प्रतिफल की दर, निवेश के मापदंड आदि।

विविधता व विस्तार के लिए वे निर्णय करते हैं कि अपने पब्लिशिंग हाउस के साथ अपनी प्रिंटिंग प्रेस साथ शुरू करेंगे।

कौन सा संगठनात्मक ढाँचा इसके लिए उचित है?

1. क्रियात्मक ढाँचा
2. औपचारिक संगठन
3. अनौपचारिक संगठन
4. विभागीय ढाँचा

**Options :**

485584147765. 1  
485584147766. 2  
485584147767. 3  
485584147768. 4

**Question Number : 198 Question Id : 48558436943 Question Type : MCQ Option Shuffling : No Is Question Mandatory : No Calculator : None Response Time : N.A Think Time : N.A Minimum Instruction Time : 0**

**Correct Marks : 5 Wrong Marks : 1**

**Question Key Details :**

Key	Value
-----	-------

Study the following case study, answer the question:

Khanna Prakashan is a reputed publishing house. They wanted to expand and diversify. On studying the business environment they found that none of the publishers have their own printing press. So they decided to start their own printing press. For this they would require an investment of Rs. 75 lakhs. On studying the capital market and looking at the boom condition, they decided to issue equity shares only for raising funds. For this purpose they issued a prospectus. Issuing shares involves huge floatation costs, which would hamper their cash flow position for at least 6 months. To meet the floatation cost, they decided to approach the money market and opted for the instrument which would help in bridge financing.

They decided to invest in a highly sophisticated machinery for their printing press. This machinery was selected after considering factors like earning capacity and rate of return, investment criteria involved etc.

Based on Boom condition of financial market, Khanna Prakashan decided to issue equity shares only. Which importance of Business Environment is depicted/reflected in given statement?

1. Help in tapping useful resources
2. Help in Coping with rapid changes
3. Help to identify threats
4. Help in improving performance

**Options :**

485584147769. 1

485584147770. 2

485584147771. 3

485584147772. 4

**Question Number : 198 Question Id : 48558436943 Question Type : MCQ Option Shuffling : No Is Question Mandatory : No Calculator : None Response Time : N.A Think Time : N.A Minimum Instruction Time : 0**

**Correct Marks : 5 Wrong Marks : 1**

**Question Key Details :**

Key	Value
Comprehension	Comp2

दिए गए मामले का अध्ययन करें एवं प्रश्न का उत्तर दें।

खन्ना प्रकाशन एक प्रतिष्ठित पब्लिशिंग हाउस है। वे विविधता व विस्तार चाहते हैं। व्यवसायिक वातावरण का अध्ययन करने के पश्चात उन्होंने पाया कि किसी भी प्रकाशक के पास अपनी मुद्रण मशीन नहीं है। उन्होंने निर्णय किया कि वे अपनी प्रिंटिंग प्रेस शुरू करेंगे। उसके लिए उन्हें 75 लाख की निवेश की आवश्यकता होगी। पूँजी बाजार के अध्ययन करने पर देखा गया कि वह उछाल की स्थिति में है। उन्होंने निर्णय लिया कि वे कोष की बढ़ाने के लिए केवल समता अंश जारी करेंगे। इस उद्देश्य से उन्होंने प्रविवरण पत्र जारी किया। शेयर जारी करने पर बड़ी मात्रा में निर्गमन लागत आई। छः माह उनके नकद प्रवाह स्थिति में बाधा आया। उन्होंने निर्णय किया कि वे मुद्रा बाजार की ओर जाएंगे और उसने सेपुवित्तियन को एक मन्त्र के रूप में चुना।

उन्होंने निर्णय किया कि वे अपनी प्रिंटिंग प्रेस के लिए एक उच्च परिष्कृत में निवेश करेंगे इस मशीन का चुनाव निम्न बिन्दुओं पर विचार करके लिया गया, जैसे उपर्जन क्षमता, प्रतिफल की दर, निवेश के मापदंड आदि।

वित्तीय बाजार की उछाल के आधार पर खन्ना प्रकाशन ने केवल समता अंश जारी करने का निर्णय लिया। उपरोक्त कथन में व्‍यसायिक वातावरण के किस महत्व को चित्रित दर्शाया गया है?

1. संसाधनों के कुशल प्रयोग में सहायक
2. तेजी से बदलाव करने में सहायता
3. संकट की पहचान में सहायता
4. प्रदर्शन में सुधार में सहायक

**Options :**

485584147769. 1  
485584147770. 2  
485584147771. 3  
485584147772. 4

**Question Number : 199 Question Id : 48558436944 Question Type : MCQ Option Shuffling : No Is Question Mandatory : No Calculator : None Response Time : N.A Think Time : N.A Minimum Instruction Time : 0**

**Correct Marks : 5 Wrong Marks : 1**

**Question Key Details :**

Key	Value
Comprehension	Comp2

Study the following case study, answer the question:

Khanna Prakashan is a reputed publishing house. They wanted to expand and diversify. On studying the business environment they found that none of the publishers have their own printing press. So they decided to start their own printing press. For this they would require an investment of Rs. 75 lakhs. On studying the capital market and looking at the boom condition, they decided to issue equity shares only for raising funds. For this purpose they issued a prospectus. Issuing shares involves huge floatation costs, which would hamper their cash flow position for at least 6 months. To meet the floatation cost, they decided to approach the money market and opted for the instrument which would help in bridge financing.

They decided to invest in a highly sophisticated machinery for their printing press. This machinery was selected after considering factors like earning capacity and rate of return, investment criteria involved etc.

Identify , the money market instrument opted for, by the company to meet its floatation cost.

1. Treasury bill
2. Certificate of deposit
3. Commercial Paper
4. Call money

**Options :**

485584147773. 1  
485584147774. 2  
485584147775. 3  
485584147776. 4

**Question Number : 199 Question Id : 48558436944 Question Type : MCQ Option Shuffling : No Is Question Mandatory : No Calculator : None Response Time : N.A Think Time : N.A Minimum Instruction Time : 0**

**Correct Marks : 5 Wrong Marks : 1**

**Question Key Details :**

Key	Value
Comprehension	Comp2

दिए गए मामले का अध्ययन करें एवं प्रश्न का उत्तर दें।

खन्ना प्रकाशन एक प्रतिष्ठित पब्लिशिंग हाउस है। वे विविधता व विस्तार चाहते हैं। व्यवसायिक वातावरण का अध्ययन करने के पश्चात् उन्होंने पाया कि किसी भी प्रकाशक के पास अपनी मुद्रण मशीन नहीं है। उन्होंने निर्णय किया कि वे अपनी प्रिंटिंग प्रेस शुरू करेंगे। उसके लिए उन्हें 75 लाख की निवेश की आवश्यकता होगी। पूंजी बाजार के अध्ययन करने पर देखा गया कि वह उछाल की स्थिति में है। उन्होंने निर्णय लिया कि वे कोष की बढ़ाने के लिए केवल समता अंश जारी करेंगे। इस उद्देश्य से उन्होंने प्रविवरण पत्र जारी किया। शोधर जारी करने पर बड़ी मात्रा में निर्गमन लागत आई। छः माह उनके नकद प्रवाह स्थिति में बाधा आया। उन्होंने निर्णय किया कि वे मुद्रा बाजार की ओर जाएंगे और उसने सेपुवित्तियन को एक यन्त्र के रूप में चुना।

उन्होंने निर्णय किया कि वे अपनी प्रिंटिंग प्रेस के लिए एक उच्च परिष्कृत में निवेश करेंगे इस मशीन का चुनाव निम्न बिन्दुओं पर विचार करके लिया गया, जैसे उपर्जन क्षमता, प्रतिफल की दर, निवेश के मापदंड आदि।

मुद्रा बाजार के उस यन्त्र (तकनीक) को पहचाने जिसके द्वारा कम्पनी ने निर्गमन लागत को पूरा किया

1. ट्रेजरी बिल (Treasury bill)
2. जमा प्रमाण पत्र (Certificate of deposit)
3. कॉमर्शियल पेपर (Commercial Paper)
4. मौग मुद्रा (Call money)

**Options :**

485584147773. 1
485584147774. 2
485584147775. 3
485584147776. 4

**Question Number : 200 Question Id : 48558436945 Question Type : MCQ Option Shuffling : No Is Question Mandatory : No Calculator : None Response Time : N.A Think Time : N.A Minimum Instruction Time : 0**

**Correct Marks : 5 Wrong Marks : 1**

**Question Key Details :**

Key	Value
Comprehension	Comp2

Study the following case study, answer the question:

Khanna Prakashan is a reputed publishing house. They wanted to expand and diversify. On studying the business environment they found that none of the publishers have their own printing press. So they decided to start their own printing press. For this they would require an investment of Rs. 75 lakhs. On studying the capital market and looking at the boom condition, they decided to issue equity shares only for raising funds. For this purpose they issued a prospectus. Issuing shares involves huge floatation costs, which would hamper their cash flow position for at least 6 months. To meet the floatation cost, they decided to approach the money market and opted for the instrument which would help in bridge financing.

They decided to invest in a highly sophisticated machinery for their printing press. This machinery was selected after considering factors like earning capacity and rate of return, investment criteria involved etc.

Identify the decision that is affected by the factors rate of return and investment criteria involved.

1. Dividend Decision
2. Capital Budgeting Decision
3. Capital Structure
4. Financing Decision

**Options :**

485584147777. 1  
 485584147778. 2  
 485584147779. 3  
 485584147780. 4

**Question Number : 200 Question Id : 48558436945 Question Type : MCQ Option Shuffling : No Is Question Mandatory : No Calculator : None Response Time : N.A Think Time : N.A Minimum Instruction Time : 0**

**Correct Marks : 5 Wrong Marks : 1**

**Question Key Details :**

Key	Value
Comprehension	Comp2

दिए गए मामले का अध्ययन करें एवं प्रश्न का उत्तर दें।

खन्ना प्रकाशन एक प्रतिष्ठित पब्लिशिंग हाउस है। वे विविधता व विस्तार चाहते हैं। व्यवसायिक वातावरण का अध्ययन करने के पश्चात उन्होंने पाया कि किसी भी प्रकाशक के पास अपनी मुद्रण मशीन नहीं है। उन्होंने निर्णय किया कि वे अपनी प्रिंटिंग प्रेस शुरू करेंगे। उसके लिए उन्हें 75 लाख की निवेश की आवश्यकता होगी। पूंजी बाजार के अध्ययन करने पर देखा गया कि वह उछाल की स्थिति में है। उन्होंने निर्णय लिया कि वे कोष की बढ़ाने के लिए केवल समता अंश जारी करेंगे। इस उद्देश्य से उन्होंने प्रविवरण पत्र जारी किया। शोधर जारी करने पर बड़ी मात्रा में निर्गमन लागत आई। छः माह उनके नकद प्रवाह स्थिति में बाधा आया। उन्होंने निर्णय किया कि वे मुद्रा बाजार की ओर जाएंगे और उसने सेपुवित्तियन को एक पन्ल के रूप में चुना।

उन्होंने निर्णय किया कि वे अपनी प्रिंटिंग प्रेस के लिए एक उच्च परिष्कृत में निवेश करेंगे इस मशीन का चुनाव निम्न बिन्दुओं पर विचार करके लिया गया, जैसे उपर्जन क्षमता, प्रतिफल की दर, निवेश के मापदंड आदि।

उस निर्णय की पहचान करें। जो कारक की आय की दर और निवेश मानदंड से प्रभावित रहा।

1. लाभार्श निर्णय
2. पूंजी बजटिंग निर्णय
3. पूंजी ढाँचा
4. वित्तिय निर्णय

**Options :**

485584147777. 1  
 485584147778. 2  
 485584147779. 3  
 485584147780. 4

**Enviromental Studies**

<b>Group Number :</b>	5
<b>Group Id :</b>	485584854
<b>Group Maximum Duration :</b>	45
<b>Group Minimum Duration :</b>	45
<b>Show Attended Group? :</b>	No
<b>Edit Attended Group? :</b>	No
<b>Break time :</b>	0
<b>Group Marks :</b>	200
<b>Is this Group for Examiner? :</b>	No
<b>Examiner permission :</b>	Cant View
<b>Show Progress Bar? :</b>	No

**Enviromental Studies**

**Section Id :** 485584982

Section Number : 1  
Section type : Online  
Mandatory or Optional : Mandatory  
Number of Questions : 50  
Number of Questions to be attempted : 40  
Section Marks : 200  
Enable Mark as Answered Mark for Review and Clear Response : Yes  
Maximum Instruction Time : 0  
Sub-Section Number : 1  
Sub-Section Id : 4855842795  
Question Shuffling Allowed : Yes  
Is Section Default? : null

Question Number : 201 Question Id : 48558437081 Question Type : MCQ Option Shuffling : No Is Question Mandatory : No Calculator : None  
Response Time : N.A Think Time : N.A Minimum Instruction Time : 0

Correct Marks : 5 Wrong Marks : 1

Question Key Details :

Key	Value
Comprehension	MCQ

The Chipko Movement and Love Canal are ideal examples of which of the following?

1. Marxist environmentalism
2. Water harvesting
3. Sustainable tourism
4. Eco- feminism

Options :

485584148321. 1  
485584148322. 2  
485584148323. 3  
485584148324. 4

Question Number : 201 Question Id : 48558437081 Question Type : MCQ Option Shuffling : No Is Question Mandatory : No Calculator : None  
Response Time : N.A Think Time : N.A Minimum Instruction Time : 0

Correct Marks : 5 Wrong Marks : 1

Question Key Details :

Key	Value
Comprehension	MCQ

चिपको आन्दोलन और लव केनाल निम्नलिखित में से किसके उदाहरण हैं?

1. मार्क्सवादी पर्यावरण
2. जल संचयन
3. सतत पर्यटन
4. पारिस्थितिकी नारीवाद

Options :

485584148321. 1  
485584148322. 2  
485584148323. 3  
485584148324. 4

Question Number : 202 Question Id : 48558437082 Question Type : MCQ Option Shuffling : No Is Question Mandatory : No Calculator : None  
Response Time : N.A Think Time : N.A Minimum Instruction Time : 0

Correct Marks : 5 Wrong Marks : 1

Question Key Details :

Key	Value
Comprehension	MCQ

Which statement is closest to the concept of sustainable development?

1. Foregoing present needs to meet future needs
2. Prioritizing present needs to meet future needs
3. Maintaining ability of nature to meet the needs of present and future generations
4. Prioritizing economics growth over ecology

**Options :**

- 485584148325. 1
- 485584148326. 2
- 485584148327. 3
- 485584148328. 4

**Question Number : 202 Question Id : 48558437082 Question Type : MCQ Option Shuffling : No Is Question Mandatory : No Calculator : None Response Time : N.A Think Time : N.A Minimum Instruction Time : 0**

**Correct Marks : 5 Wrong Marks : 1**

**Question Key Details :**

Key	Value
Comprehension	MCQ

कौन सा कथन सतत विकास की अवधारणा के सबसे निकट है?

1. वर्तमान जरूरतों को, भविष्य की जरूरतों को पूरा करने के लिए, छोड़ना
2. भविष्य की जरूरतों को पूरा करने के लिए वर्तमान जरूरतों को प्राथमिकता देना
3. वर्तमान और भावी पीढ़ियों की जरूरतों को पूरा करने के लिए प्रकृति की क्षमता को बनाए रखना
4. पारिस्थितिकी पर आर्थिक विकास को प्राथमिकता देना

**Options :**

- 485584148325. 1
- 485584148326. 2
- 485584148327. 3
- 485584148328. 4

**Question Number : 203 Question Id : 48558437083 Question Type : MCQ Option Shuffling : No Is Question Mandatory : No Calculator : None Response Time : N.A Think Time : N.A Minimum Instruction Time : 0**

**Correct Marks : 5 Wrong Marks : 1**

**Question Key Details :**

Key	Value
Comprehension	MCQ

Headquarter of Green Peace, a non governmental environmental organisation is located at

1. Amsterdam
2. Montreal
3. Vienna
4. Paris

**Options :**

- 485584148329. 1
- 485584148330. 2
- 485584148331. 3



485584148332. 4

Question Number : 203 Question Id : 48558437083 Question Type : MCQ Option Shuffling : No Is Question Mandatory : No Calculator : None  
Response Time : N.A Think Time : N.A Minimum Instruction Time : 0  
Correct Marks : 5 Wrong Marks : 1

Question Key Details :

Key	Value
Comprehension	MCQ

ग्रीन पीस नामक गैर सरकारी पर्यावरण संगठन का मुख्यालय कहीं स्थित है ?

1. एन्स्टर्डम
2. मॉन्ट्रियल
3. वियना
4. पेरिस

Options :

485584148329. 1  
485584148330. 2  
485584148331. 3  
485584148332. 4

Question Number : 204 Question Id : 48558437084 Question Type : MCQ Option Shuffling : No Is Question Mandatory : No Calculator : None  
Response Time : N.A Think Time : N.A Minimum Instruction Time : 0

Correct Marks : 5 Wrong Marks : 1

Question Key Details :

Key	Value
Comprehension	MCQ

A unique ecology which describes the merging of aspects of Marxism, socialism, libertarian socialism with green politics and ecology is referred to as

1. Deep ecology
2. Shallow ecology
3. Socialist ecology
4. Marxist ecology

Options :

485584148333. 1  
485584148334. 2  
485584148335. 3  
485584148336. 4

Question Number : 204 Question Id : 48558437084 Question Type : MCQ Option Shuffling : No Is Question Mandatory : No Calculator : None  
Response Time : N.A Think Time : N.A Minimum Instruction Time : 0

Correct Marks : 5 Wrong Marks : 1

Question Key Details :

Key	Value
Comprehension	MCQ

एक विशिष्ट पारिस्थितिकी जो मार्क्सवाद, समाजवाद, उदारवादी समाजवाद के पहलुओं का हरित राजनीति और पारिस्थितिकी के साथ विलय का वर्णन करती है, क्या कहलाती है?

1. गहन पारिस्थितिकी
2. ऊयली पारिस्थितिकी
3. समाजवादी पारिस्थितिकी
4. मार्क्सवादी पारिस्थितिकी

**Options :**

485584148333. 1  
 485584148334. 2  
 485584148335. 3  
 485584148336. 4

**Question Number : 205 Question Id : 48558437085 Question Type : MCQ Option Shuffling : No Is Question Mandatory : No Calculator : None Response Time : N.A Think Time : N.A Minimum Instruction Time : 0**

**Correct Marks : 5 Wrong Marks : 1**

**Question Key Details :**

Key	Value
Comprehension	MCQ

Match List I with List II

LIST I Author		LIST II Book	
A.	Rachel Carson	I.	A place on Earth
B.	Gary Synder	II.	The Closing Circle
C.	Wendell Berry	III.	Silent Spring
D.	Barry Commoner	IV.	Cold Mountain

Choose the correct answer from the options given below:

1. A-III, B-IV, C-I, D-II
2. A-I, B-III, C-II, D-IV
3. A-IV, B-I, C-III, D-II
4. A-II, B-IV, C-I, D-III

**Options :**

485584148337. 1  
 485584148338. 2  
 485584148339. 3  
 485584148340. 4

**Question Number : 205 Question Id : 48558437085 Question Type : MCQ Option Shuffling : No Is Question Mandatory : No Calculator : None Response Time : N.A Think Time : N.A Minimum Instruction Time : 0**

**Correct Marks : 5 Wrong Marks : 1**

**Question Key Details :**

Key	Value
Comprehension	MCQ

सूची I से सूची II का मिलान करें।

सूची I लेखक		सूची II पुस्तक	
A.	राचेल कार्सन	I.	ए प्लेस ऑन अर्थ
B.	गैरी स्नाइडर	II.	द क्लोजिंग सर्कल
C.	वेडेल बेरी	III.	साइलेंट स्प्रिंग
D.	बेरी कॉमनर	IV.	कोल्ड माउंटेन

नीचे दिए गे विकल्पों में से सही उत्तर का चयन करें:

1. A-III, B-IV, C-I, D-II

2. A-I, B-III, C-II, D-IV

3. A-IV, B-I, C-III, D-II

4. A-II, B-IV, C-I, D-III

**Options :**

485584148337. 1

485584148338. 2

485584148339. 3

485584148340. 4

**Question Number : 206 Question Id : 48558437086 Question Type : MCQ Option Shuffling : No Is Question Mandatory : No Calculator : None Response Time : N.A Think Time : N.A Minimum Instruction Time : 0**

**Correct Marks : 5 Wrong Marks : 1**

**Question Key Details :**

Key	Value
Comprehension	MCQ

Man and Biosphere Programme was started by which of the following organisation ?

1. UNICEF

2. UNESCO

3. IUCN

4. WWF

**Options :**

485584148341. 1

485584148342. 2

485584148343. 3

485584148344. 4

**Question Number : 206 Question Id : 48558437086 Question Type : MCQ Option Shuffling : No Is Question Mandatory : No Calculator : None Response Time : N.A Think Time : N.A Minimum Instruction Time : 0**

**Correct Marks : 5 Wrong Marks : 1**

**Question Key Details :**

Key	Value
Comprehension	MCQ

मैन एंड बायोस्फीयर प्रोग्राम निम्नलिखित में से किस संगठन द्वारा शुरू किया गया था ?

1. UNICEF
2. UNESCO
3. IUCN
4. WWF

**Options :**

485584148341. 1  
485584148342. 2  
485584148343. 3  
485584148344. 4

**Question Number : 207 Question Id : 48558437087 Question Type : MCQ Option Shuffling : No Is Question Mandatory : No Calculator : None Response Time : N.A Think Time : N.A Minimum Instruction Time : 0**

**Correct Marks : 5 Wrong Marks : 1**

**Question Key Details :**

Key	Value
Comprehension	MCQ

Which phase in bacterial growth is considered to be the most actively growing stage?

1. Lag phase
2. Positive acceleration phase
3. Logarithmic or exponential phase
4. Stationary phase

**Options :**

485584148345. 1  
485584148346. 2  
485584148347. 3  
485584148348. 4

**Question Number : 207 Question Id : 48558437087 Question Type : MCQ Option Shuffling : No Is Question Mandatory : No Calculator : None Response Time : N.A Think Time : N.A Minimum Instruction Time : 0**

**Correct Marks : 5 Wrong Marks : 1**

**Question Key Details :**

Key	Value
Comprehension	MCQ

बैक्टीरिया के विकास में किस चरण को सबसे तीव्र रूप से विकसित होने वाला चरण माना जाता है?

1. अंतराल
2. सकारात्मक त्वरण चरण
3. लघुगणक या घातीय चरण
4. स्थिर चरण

**Options :**

485584148345. 1  
485584148346. 2  
485584148347. 3  
485584148348. 4

Question Number : 208 Question Id : 48558437088 Question Type : MCQ Option Shuffling : No Is Question Mandatory : No Calculator : None  
Response Time : N.A Think Time : N.A Minimum Instruction Time : 0

Correct Marks : 5 Wrong Marks : 1

Question Key Details :

Key	Value
Comprehension	MCQ

Which option shows correct representation for commensalism among two species?

1. +, +

2. +, -

3. -, +

4. +, 0

Options :

485584148349. 1

485584148350. 2

485584148351. 3

485584148352. 4

Question Number : 208 Question Id : 48558437088 Question Type : MCQ Option Shuffling : No Is Question Mandatory : No Calculator : None  
Response Time : N.A Think Time : N.A Minimum Instruction Time : 0

Correct Marks : 5 Wrong Marks : 1

Question Key Details :

Key	Value
Comprehension	MCQ

कौन सा विकल्प प्रजातियों के बीच सहभोजनवाद (सहभोजिता) का उचित प्रतिनिधित्व दर्शाता है?

1. +, +

2. +, -

3. -, +

4. +, 0

Options :

485584148349. 1

485584148350. 2

485584148351. 3

485584148352. 4

Question Number : 209 Question Id : 48558437089 Question Type : MCQ Option Shuffling : No Is Question Mandatory : No Calculator : None  
Response Time : N.A Think Time : N.A Minimum Instruction Time : 0

Correct Marks : 5 Wrong Marks : 1

Question Key Details :

Key	Value
Comprehension	MCQ

The k type life strategy is followed by

- A. Elephants
- B. Tigers
- C. Fishes
- D. Mosquitos
- E. Lions

Choose the correct answer from the options given below:

1. A, B, C only
2. B, C, D only
3. C, D, E only
4. A, B, E only

**Options :**

- 485584148353. 1
- 485584148354. 2
- 485584148355. 3
- 485584148356. 4

**Question Number : 209 Question Id : 48558437089 Question Type : MCQ Option Shuffling : No Is Question Mandatory : No Calculator : None Response Time : N.A Think Time : N.A Minimum Instruction Time : 0**

**Correct Marks : 5 Wrong Marks : 1**

**Question Key Details :**

Key	Value
Comprehension	MCQ

निम्न में से कौन k प्रकार की जीवन-योजना का अनुसरण करता है?

- A. हाथी
- B. बाघ
- C. मछलियाँ
- D. मच्छर
- E. शेर

नीचे दिए गए विकल्पों में से सबसे उपयुक्त उत्तर का चयन कीजिए:

1. केवल A, B, C
2. केवल B, C, D
3. केवल C, D, E
4. केवल A, B, E

**Options :**

- 485584148353. 1
- 485584148354. 2
- 485584148355. 3
- 485584148356. 4

**Question Number : 210 Question Id : 48558437090 Question Type : MCQ Option Shuffling : No Is Question Mandatory : No Calculator : None Response Time : N.A Think Time : N.A Minimum Instruction Time : 0**

**Correct Marks : 5 Wrong Marks : 1**

**Question Key Details :**

Key	Value
Comprehension	MCQ

Match List I with List II

LIST I Act/polly		LIST II Year	
A.	Wildlife (protection) Act	I.	1927
B.	Forest Act	II.	1980
C.	Forest Conservation Act	III.	1972
D.	National Forest Policy	IV.	1988

Choose the correct answer from the options given below:

1. A-II, B-I, C-IV, D-III
2. A-III, B-I, C-II, D-IV
3. A-IV, B-III, C-I, D-II
4. A-I, B-II, C-III, D-IV

Options :

485584148357. 1  
485584148358. 2  
485584148359. 3  
485584148360. 4

Question Number : 210 Question Id : 48558437090 Question Type : MCQ Option Shuffling : No Is Question Mandatory : No Calculator : None Response Time : N.A Think Time : N.A Minimum Instruction Time : 0

Correct Marks : 5 Wrong Marks : 1

Question Key Details :

Key	Value
Comprehension	MCQ

सूची I से सूची II का मिलान करें -

सूची I योजना		सूची II वर्ष	
A.	वन्य जीव संरक्षण अधिनियम	I.	1927
B.	वन अधिनियम	II.	1980
C.	वन संरक्षण अधिनियम	III.	1972
D.	राष्ट्रीय वन नीति	IV.	1988

नीचे दिए गए विकल्पों में से सही उत्तर का चयन कीजिए:

1. A-II, B-I, C-IV, D-III
2. A-III, B-I, C-II, D-IV
3. A-IV, B-III, C-I, D-II
4. A-I, B-II, C-III, D-IV

Options :

485584148357. 1  
485584148358. 2  
485584148359. 3  
485584148360. 4

Question Number : 211 Question Id : 48558437091 Question Type : MCQ Option Shuffling : No Is Question Mandatory : No Calculator : None Response Time : N.A Think Time : N.A Minimum Instruction Time : 0

Correct Marks : 5 Wrong Marks : 1

**Question Key Details :**

Key	Value
Comprehension	MCQ

Arrange the following in a correct order of primary successions of plants.

- A. Submerged plant stage
- B. Scrub stage
- C. Marsh- meadow stage
- D. Red-Swamp stage
- E. Submerged free floating stage

Choose the correct answer from the options given below:

- 1. E, A, C, D, B
- 2. A, E, D, C, B
- 3. C, A, D, A, B
- 4. B, C, A, E, D

**Options :**

- 485584148361. 1
- 485584148362. 2
- 485584148363. 3
- 485584148364. 4

**Question Number : 211 Question Id : 48558437091 Question Type : MCQ Option Shuffling : No Is Question Mandatory : No Calculator : None Response Time : N.A Think Time : N.A Minimum Instruction Time : 0**

**Correct Marks : 5 Wrong Marks : 1**

**Question Key Details :**

Key	Value
Comprehension	MCQ

निम्नलिखित चरणों को पौधों के प्राथमिक अनुक्रमण के उचित क्रम में व्यवस्थित करें।

- A. जल मग्न पौधे की अवस्था
- B. झाड़ी-अवस्था
- C. मार्श-घास की मैदान चरण
- D. लाल-दलदल अवस्था
- E. जलमग्न मुक्त तैरता हुआ पौधे की अवस्था

नीचे दिए गए विकल्पों में से सबसे उपयुक्त उत्तर का चयन कीजिए:

- 1. E, A, C, D, B
- 2. A, E, D, C, B
- 3. C, A, D, A, B
- 4. B, C, A, E, D

**Options :**

- 485584148361. 1
- 485584148362. 2
- 485584148363. 3
- 485584148364. 4

**Question Number : 212 Question Id : 48558437092 Question Type : MCQ Option Shuffling : No Is Question Mandatory : No Calculator : None Response Time : N.A Think Time : N.A Minimum Instruction Time : 0**

**Correct Marks : 5 Wrong Marks : 1**

**Question Key Details :**

Key	Value
-----	-------



Which one of the following is the correct for concave type life survivorship curve?

1. All age groups show equal survival probability
2. It is followed by birds and reptiles
3. High mortality during lowest age group due to predation
4. Low mortality rate during young and middle age

**Options :**

485584148365. 1  
485584148366. 2  
485584148367. 3  
485584148368. 4

**Question Number : 212 Question Id : 48558437092 Question Type : MCQ Option Shuffling : No Is Question Mandatory : No Calculator : None Response Time : N.A Think Time : N.A Minimum Instruction Time : 0**

**Correct Marks : 5 Wrong Marks : 1**

**Question Key Details :**

Key	Value
Comprehension	MCQ

अवतल प्रकार की जीवन उत्तरजीविता भुजा के लिए निम्नलिखित में से कौन सा सही है?

1. सभी आयु समूह जीवित रहने की समान सम्भावना प्रदर्शित करते हैं।
2. यह पक्षियों और सरिशिप के द्वारा पालन की जाती है।
3. परभक्षिता के कारण सबसे कम आयु वर्ग के दौरान उच्च मृत्यु दर
4. पुवा और अघेड़ उम्र के दौरान कम मृत्यु दर

**Options :**

485584148365. 1  
485584148366. 2  
485584148367. 3  
485584148368. 4

**Question Number : 213 Question Id : 48558437093 Question Type : MCQ Option Shuffling : No Is Question Mandatory : No Calculator : None Response Time : N.A Think Time : N.A Minimum Instruction Time : 0**

**Correct Marks : 5 Wrong Marks : 1**

**Question Key Details :**

Key	Value
Comprehension	MCQ

Which of the following is not an example of In-situ biodiversity conservation?

1. National Park
2. Biosphere Reserve
3. Botanical Garden
4. Protected Areas

**Options :**

485584148369. 1  
485584148370. 2  
485584148371. 3  
485584148372. 4

Question Number : 213 Question Id : 48558437093 Question Type : MCQ Option Shuffling : No Is Question Mandatory : No Calculator : None Response Time : N.A Think Time : N.A Minimum Instruction Time : 0

Correct Marks : 5 Wrong Marks : 1

Question Key Details :

Key	Value
Comprehension	MCQ

निम्नलिखित में से कौन सी एक स्वस्थाने जैवविविधता का उदाहरण नहीं है?

1. राष्ट्रीय उद्यान
2. संरक्षित जैवमंडल (रिजर्व)
3. वनस्पति उद्यान
4. संरक्षित क्षेत्र

Options :

485584148369. 1  
485584148370. 2  
485584148371. 3  
485584148372. 4

Question Number : 214 Question Id : 48558437094 Question Type : MCQ Option Shuffling : No Is Question Mandatory : No Calculator : None Response Time : N.A Think Time : N.A Minimum Instruction Time : 0

Correct Marks : 5 Wrong Marks : 1

Question Key Details :

Key	Value
Comprehension	MCQ

In the Biosphere Reserve, human settlement is allowed in \_\_\_\_\_

1. Core zone
2. Transition zone
3. Natural zone
4. Buffer zone

Options :

485584148373. 1  
485584148374. 2  
485584148375. 3  
485584148376. 4

Question Number : 214 Question Id : 48558437094 Question Type : MCQ Option Shuffling : No Is Question Mandatory : No Calculator : None Response Time : N.A Think Time : N.A Minimum Instruction Time : 0

Correct Marks : 5 Wrong Marks : 1

Question Key Details :

Key	Value
Comprehension	MCQ

संरक्षित जैवमंडल में मानवीय निवास \_\_\_\_\_ में अनुमति होता है।

1. अंतर्भाग
2. संक्रमण क्षेत्र
3. प्राकृतिक क्षेत्र
4. मध्यवर्ती क्षेत्र

**Options :**

485584148373. 1  
485584148374. 2  
485584148375. 3  
485584148376. 4

**Question Number : 215 Question Id : 48558437095 Question Type : MCQ Option Shuffling : No Is Question Mandatory : No Calculator : None Response Time : N.A Think Time : N.A Minimum Instruction Time : 0**

**Correct Marks : 5 Wrong Marks : 1**

**Question Key Details :**

Key	Value
Comprehension	MCQ

Match List I with List II

LIST I Production		LIST II Definition	
A.	Gross primary productivity	I.	Rate of formation of new organic matters by consumer
B.	Secondary productivity	II.	Available biomass for consumption to heterotrophs
C.	Net primary productivity	III.	Rate of biomass production
D.	Productivity	IV.	Net primary productivity plus respiration loss (R)

Choose the correct answer from the options given below:

1. A-I, B-II, C-III, D-IV
2. A-IV, B-I, C-II, D-III
3. A-II, B-IV, C-I, D-III
4. A-IV, B-II, C-I, D-III

**Options :**

485584148377. 1  
485584148378. 2  
485584148379. 3  
485584148380. 4

**Question Number : 215 Question Id : 48558437095 Question Type : MCQ Option Shuffling : No Is Question Mandatory : No Calculator : None Response Time : N.A Think Time : N.A Minimum Instruction Time : 0**

**Correct Marks : 5 Wrong Marks : 1**

**Question Key Details :**

Key	Value
Comprehension	MCQ

सूची I से सूची II का मिलान कीजिए।

सूची I उत्पादकता		सूची II परिभाषा	
A.	सकल प्राथमिक उत्पादकता	I.	उपभोगता द्वारा नए कार्बनिक पदार्थ के बनाने की दर
B.	द्वितीयक उत्पादकता	II.	परपोषितों के उपयोग के लिए उपलब्ध जैवभार
C.	शुद्ध प्राथमिक उत्पादकता	III.	जैवभार के उत्पादन की दर
D.	उत्पादकता	IV.	शुद्ध प्राथमिक उत्पादकता और क्षसन के कारण नुकसान (R) का जोड़ होता है

नीचे दिए गए विकल्पों में से सही उत्तर का चयन कीजिए:

1. A-I, B-II, C-III, D-IV
2. A-IV, B-I, C-II, D-III
3. A-II, B-IV, C-I, D-III
4. A-IV, B-II, C-I, D-III

Options :

485584148377. 1  
485584148378. 2  
485584148379. 3  
485584148380. 4

Question Number : 216 Question Id : 48558437096 Question Type : MCQ Option Shuffling : No Is Question Mandatory : No Calculator : None Response Time : N.A Think Time : N.A Minimum Instruction Time : 0

Correct Marks : 5 Wrong Marks : 1

Question Key Details :

Key	Value
Comprehension	MCQ

Clayey soil has \_\_\_\_\_

1. Good drainage
2. Easy tillage
3. High water retention capacity
4. High percolation capacity

Options :

485584148381. 1  
485584148382. 2  
485584148383. 3  
485584148384. 4

Question Number : 216 Question Id : 48558437096 Question Type : MCQ Option Shuffling : No Is Question Mandatory : No Calculator : None Response Time : N.A Think Time : N.A Minimum Instruction Time : 0

Correct Marks : 5 Wrong Marks : 1

Question Key Details :

Key	Value
Comprehension	MCQ

चिकनी मिट्टी में \_\_\_\_\_ होता है।

1. अच्छी जल निकासी
2. आसान जुताई
3. उच्च जल धारण क्षमता
4. उच्च रिसाव क्षमता

**Options :**

485584148381. 1  
485584148382. 2  
485584148383. 3  
485584148384. 4

**Question Number : 217 Question Id : 48558437097 Question Type : MCQ Option Shuffling : No Is Question Mandatory : No Calculator : None Response Time : N.A Think Time : N.A Minimum Instruction Time : 0**

**Correct Marks : 5 Wrong Marks : 1**

**Question Key Details :**

Key	Value
Comprehension	MCQ

Which of the following is NOT directly released in ambient atmosphere?

1. CO
2. CO<sub>2</sub>
3. NH<sub>3</sub>
4. O<sub>3</sub>

**Options :**

485584148385. 1  
485584148386. 2  
485584148387. 3  
485584148388. 4

**Question Number : 217 Question Id : 48558437097 Question Type : MCQ Option Shuffling : No Is Question Mandatory : No Calculator : None Response Time : N.A Think Time : N.A Minimum Instruction Time : 0**

**Correct Marks : 5 Wrong Marks : 1**

**Question Key Details :**

Key	Value
Comprehension	MCQ

निम्नलिखित में से कौन से परिवेशी वातावरण में प्रत्यक्ष रूप से संबंधित नहीं छोड़ा जाता?

1. CO
2. CO<sub>2</sub>
3. NH<sub>3</sub>
4. O<sub>3</sub>

**Options :**

485584148385. 1  
485584148386. 2  
485584148387. 3  
485584148388. 4

Question Number : 218 Question Id : 48558437098 Question Type : MCQ Option Shuffling : No Is Question Mandatory : No Calculator : None Response Time : N.A Think Time : N.A Minimum Instruction Time : 0

Correct Marks : 5 Wrong Marks : 1

Question Key Details :

Key	Value
Comprehension	MCQ

Solubility of atmospheric oxygen in lake water is governed by

1. Distribution law
2. Henry's law
3. Gay Lussacs law
4. Darcy law

Options :

- 485584148389. 1
- 485584148390. 2
- 485584148391. 3
- 485584148392. 4

Question Number : 218 Question Id : 48558437098 Question Type : MCQ Option Shuffling : No Is Question Mandatory : No Calculator : None Response Time : N.A Think Time : N.A Minimum Instruction Time : 0

Correct Marks : 5 Wrong Marks : 1

Question Key Details :

Key	Value
Comprehension	MCQ

झील के पानी में वायुमंडलीय आक्सीजन की घुलनशीलता किसके द्वारा नियन्त्रित होती है?

1. वितरण नियम से
2. हेनरी के नियम से
3. गे-लुसाक के नियम से
4. डारसी नियम से

Options :

- 485584148389. 1
- 485584148390. 2
- 485584148391. 3
- 485584148392. 4

Question Number : 219 Question Id : 48558437099 Question Type : MCQ Option Shuffling : No Is Question Mandatory : No Calculator : None Response Time : N.A Think Time : N.A Minimum Instruction Time : 0

Correct Marks : 5 Wrong Marks : 1

Question Key Details :

Key	Value
Comprehension	MCQ

Ethylene gas is used for

1. Induction of flowering
2. Delaying the abscission of leaves
3. Delaying the abscission of fruits
4. Ripening of fruits

Options :

- 485584148393. 1
- 485584148394. 2
- 485584148395. 3
- 485584148396. 4

Question Number : 219 Question Id : 48558437099 Question Type : MCQ Option Shuffling : No Is Question Mandatory : No Calculator : None Response Time : N.A Think Time : N.A Minimum Instruction Time : 0

Correct Marks : 5 Wrong Marks : 1

Question Key Details :

Key	Value
Comprehension	MCQ

एथिलीन गैस का प्रयोग किया जाता है

1. फलदार पौधों के फूलों के प्रेरण को बढ़ाना
2. पत्तियों के विगलन को विलंबित करना
3. फलों के विगलन को विलंबित करना
4. फलों को पकाने के लिए

Options :

- 485584148393. 1
- 485584148394. 2
- 485584148395. 3
- 485584148396. 4

Question Number : 220 Question Id : 48558437100 Question Type : MCQ Option Shuffling : No Is Question Mandatory : No Calculator : None Response Time : N.A Think Time : N.A Minimum Instruction Time : 0

Correct Marks : 5 Wrong Marks : 1

Question Key Details :

Key	Value
Comprehension	MCQ

Air (prevention and control of pollution) Act in India was established in year \_\_\_\_\_

1. 1972
2. 1974
3. 1981
4. 1986

Options :

- 485584148397. 1
- 485584148398. 2
- 485584148399. 3
- 485584148400. 4

Question Number : 220 Question Id : 48558437100 Question Type : MCQ Option Shuffling : No Is Question Mandatory : No Calculator : None Response Time : N.A Think Time : N.A Minimum Instruction Time : 0

Correct Marks : 5 Wrong Marks : 1

Question Key Details :

Key	Value
Comprehension	MCQ

भारत में वायु (रोकथाम और प्रदूषण नियन्त्रण) अधिनियम किस वर्ष से लागू हुआ?

1. 1972
2. 1974
3. 1981
4. 1986

Options :

485584148397. 1  
485584148398. 2  
485584148399. 3  
485584148400. 4

Question Number : 221 Question Id : 48558437101 Question Type : MCQ Option Shuffling : No Is Question Mandatory : No Calculator : None Response Time : N.A Think Time : N.A Minimum Instruction Time : 0

Correct Marks : 5 Wrong Marks : 1

Question Key Details :

Key	Value
Comprehension	MCQ

Which of the following does not fall under Panchayati raj system?

1. Gram Panchayat
2. Zila Parishad
3. Mandal Samiti
4. State Samiti

Options :

485584148401. 1  
485584148402. 2  
485584148403. 3  
485584148404. 4

Question Number : 221 Question Id : 48558437101 Question Type : MCQ Option Shuffling : No Is Question Mandatory : No Calculator : None Response Time : N.A Think Time : N.A Minimum Instruction Time : 0

Correct Marks : 5 Wrong Marks : 1

Question Key Details :

Key	Value
Comprehension	MCQ

निम्नलिखित में से कौन, पंचायती राज व्यवस्था के अंतर्गत नहीं आता?

1. ग्राम पंचायत
2. जिला परिषद
3. मंडल समिति
4. राज्य समिति



**Options :**

- 485584148401. 1
- 485584148402. 2
- 485584148403. 3
- 485584148404. 4

Question Number : 222 Question Id : 48558437102 Question Type : MCQ Option Shuffling : No Is Question Mandatory : No Calculator : None Response Time : N.A Think Time : N.A Minimum Instruction Time : 0

Correct Marks : 5 Wrong Marks : 1

**Question Key Details :**

Key	Value
Comprehension	MCQ

The term 'Antyoday' literally means:

1. Upliftment of all
2. Ending inequality
3. Ending colonialism
4. Upliftment of the lost

**Options :**

- 485584148405. 1
- 485584148406. 2
- 485584148407. 3
- 485584148408. 4

Question Number : 222 Question Id : 48558437102 Question Type : MCQ Option Shuffling : No Is Question Mandatory : No Calculator : None Response Time : N.A Think Time : N.A Minimum Instruction Time : 0

Correct Marks : 5 Wrong Marks : 1

**Question Key Details :**

Key	Value
Comprehension	MCQ

अंत्योदय शब्द का वास्तविक अर्थ है:

1. सभी का उत्थान
2. असमानता का अंत
3. उपनिवेशवाद का अंत
4. अंतिम का उत्थान

**Options :**

- 485584148405. 1
- 485584148406. 2
- 485584148407. 3
- 485584148408. 4

Question Number : 223 Question Id : 48558437103 Question Type : MCQ Option Shuffling : No Is Question Mandatory : No Calculator : None Response Time : N.A Think Time : N.A Minimum Instruction Time : 0

Correct Marks : 5 Wrong Marks : 1

**Question Key Details :**

Key	Value
Comprehension	MCQ

Which of the following is not a technique used for waste to energy conversion?

1. Pyrolysis
2. Gassification
3. Thermal depolymerisation
4. Incineration

**Options :**

485584148409. 1  
485584148410. 2  
485584148411. 3  
485584148412. 4

**Question Number : 223 Question Id : 48558437103 Question Type : MCQ Option Shuffling : No Is Question Mandatory : No Calculator : None Response Time : N.A Think Time : N.A Minimum Instruction Time : 0**

**Correct Marks : 5 Wrong Marks : 1**

**Question Key Details :**

Key	Value
Comprehension	MCQ

निम्नलिखित में से कौन सी विधि अपशिष्ट से ऊर्जा रूपांतरण के लिए उपयोग नहीं की जाती है?

1. पायरोलिसिस
2. गैसीकरण
3. थर्मल डीपोलीमराइजेशन
4. भस्मीकरण

**Options :**

485584148409. 1  
485584148410. 2  
485584148411. 3  
485584148412. 4

**Question Number : 224 Question Id : 48558437104 Question Type : MCQ Option Shuffling : No Is Question Mandatory : No Calculator : None Response Time : N.A Think Time : N.A Minimum Instruction Time : 0**

**Correct Marks : 5 Wrong Marks : 1**

**Question Key Details :**

Key	Value
Comprehension	MCQ

Arrange the following De centralised Waste Water Treatment (DCWAT) steps starting from first to last

- A. Anaerobic filter
- B. Anaerobic Baffled Resctor
- C. Settler
- D. Planted Gravel filter

Choose the correct answer from the options given below:

1. C, A, B, D
2. C, B, A, D
3. A, C, B, D
4. C, D, B, A

**Options :**

485584148413. 1  
485584148414. 2  
485584148415. 3  
485584148416. 4

Question Number : 224 Question Id : 48558437104 Question Type : MCQ Option Shuffling : No Is Question Mandatory : No Calculator : None  
Response Time : N.A Think Time : N.A Minimum Instruction Time : 0

Correct Marks : 5 Wrong Marks : 1

**Question Key Details :**

Key	Value
Comprehension	MCQ

निम्नलिखित विकेन्द्रीकरण अपशिष्ट जल उपचार के चरणों को प्रथम से अन्तिम तक क्रमानुसार व्यवस्थित करें -

- A. अवायवीय फिल्टर (निष्पादक)  
B. अवायवीय बाधक रिपक्टर  
C. मध्यस्थ  
D. बजरी का बनाया हुआ फिल्टर (निष्पादक)

नीचे दिए गए विकल्पों में से सबसे उपयुक्त उत्तर का चयन कीजिए:

1. C, A, B, D  
2. C, B, A, D  
3. A, C, B, D  
4. C, D, B, A

**Options :**

485584148413. 1  
485584148414. 2  
485584148415. 3  
485584148416. 4

Question Number : 225 Question Id : 48558437105 Question Type : MCQ Option Shuffling : No Is Question Mandatory : No Calculator : None  
Response Time : N.A Think Time : N.A Minimum Instruction Time : 0

Correct Marks : 5 Wrong Marks : 1

**Question Key Details :**

Key	Value
Comprehension	MCQ

Which Indian state was the first state to be selected for Green Revolution in the year 1961?

1. Haryana  
2. Uttar Pradesh  
3. Karnataka  
4. Punjab

**Options :**

485584148417. 1  
485584148418. 2  
485584148419. 3  
485584148420. 4

Question Number : 225 Question Id : 48558437105 Question Type : MCQ Option Shuffling : No Is Question Mandatory : No Calculator : None  
Response Time : N.A Think Time : N.A Minimum Instruction Time : 0

Correct Marks : 5 Wrong Marks : 1

**Question Key Details :**

Key	Value
Comprehension	MCQ

भारत के किस राज्य को सर्वप्रथम हरित क्रान्ति के लिए चुना गया था?

1. हरियाणा
2. उत्तर प्रदेश
3. कर्नाटक
4. पंजाब

**Options :**

485584148417. 1  
485584148418. 2  
485584148419. 3  
485584148420. 4

**Question Number : 226 Question Id : 48558437106 Question Type : MCQ Option Shuffling : No Is Question Mandatory : No Calculator : None Response Time : N.A Think Time : N.A Minimum Instruction Time : 0**

**Correct Marks : 5 Wrong Marks : 1**

**Question Key Details :**

Key	Value
Comprehension	MCQ

A cropping practice in which a tall crop is planted with a shorter crop that require partial shade, is known as

1. Mixed cropping
2. Inter cropping
3. Multiple cropping
4. Mixed farming

**Options :**

485584148421. 1  
485584148422. 2  
485584148423. 3  
485584148424. 4

**Question Number : 226 Question Id : 48558437106 Question Type : MCQ Option Shuffling : No Is Question Mandatory : No Calculator : None Response Time : N.A Think Time : N.A Minimum Instruction Time : 0**

**Correct Marks : 5 Wrong Marks : 1**

**Question Key Details :**

Key	Value
Comprehension	MCQ

एक ऐसी फसल अभ्यास जिसमें एक लम्बी फसल के साथ एक छोटी फसल लगाई जाती है जिसे आंशिक छाया की आवश्यकता होती है को क्या कहते हैं?

1. मिश्रित फसल
2. अंतर फसल
3. बहु फसल
4. मिश्रित खेती

**Options :**

485584148421. 1  
485584148422. 2

485584148423. 3  
485584148424. 4

**Question Number : 227 Question Id : 48558437107 Question Type : MCQ Option Shuffling : No Is Question Mandatory : No Calculator : None Response Time : N.A Think Time : N.A Minimum Instruction Time : 0**

**Correct Marks : 5 Wrong Marks : 1**

**Question Key Details :**

Key	Value
Comprehension	MCQ

The main objective of sustainable agriculture is to :-

1. Increase the yield of crops
2. Promote natural farming and reduce burden of pesticides and fertilizers
3. Bring green revolution by promoting the use of genetically modified seeds
4. Proliferate the adoption of modern techniques of agriculture

**Options :**

485584148425. 1  
485584148426. 2  
485584148427. 3  
485584148428. 4

**Question Number : 227 Question Id : 48558437107 Question Type : MCQ Option Shuffling : No Is Question Mandatory : No Calculator : None Response Time : N.A Think Time : N.A Minimum Instruction Time : 0**

**Correct Marks : 5 Wrong Marks : 1**

**Question Key Details :**

Key	Value
Comprehension	MCQ

सतत कृषि का मुख्य उद्देश्य है .

1. फसलों की उपज में वृद्धि करना
2. प्राकृतिक खेती को बढ़ावा देना और कीटनाशकों और उर्वरकों के बोझ को कम करना है
3. आनुवंशिक रूप से संशोधित बीजों के उपयोग कर के हरित क्रांति लाना
4. कृषि की आधुनिक प्रविधि को अपनाना

**Options :**

485584148425. 1  
485584148426. 2  
485584148427. 3  
485584148428. 4

**Question Number : 228 Question Id : 48558437108 Question Type : MCQ Option Shuffling : No Is Question Mandatory : No Calculator : None Response Time : N.A Think Time : N.A Minimum Instruction Time : 0**

**Correct Marks : 5 Wrong Marks : 1**

**Question Key Details :**

Key	Value
Comprehension	MCQ

The major causes of land degradation and subsequent soil erosion are

- A. Overgrazing
- B. Deforestation and over harvest for firewood
- C. Use of modern irrigation technique such as drip irrigation
- D. Chemical and physical degradation
- E. Industrial activity

Choose the correct answer from the options given below:

- 1. A, B, C only
- 2. A, B, C, D only
- 3. A, B, D, E only
- 4. A, B, C, E only

**Options :**

- 485584148429. 1
- 485584148430. 2
- 485584148431. 3
- 485584148432. 4

**Question Number : 228 Question Id : 48558437108 Question Type : MCQ Option Shuffling : No Is Question Mandatory : No Calculator : None Response Time : N.A Think Time : N.A Minimum Instruction Time : 0**

**Correct Marks : 5 Wrong Marks : 1**

**Question Key Details :**

Key	Value
Comprehension	MCQ

भूमि क्षरण और लगातार मिट्टी के कटाव के मुख्य कारण है -

- A. अतिचारण
- B. वनों की कटाई और जलाने वाली लकड़ी का अधिक दोहन
- C. आधुनिक सिंचाई तकनीकों जैसे की ट्रिप सिंचाई का उपयोग
- D. रासायनिक और भौतिक निम्निकरण
- E. औद्योगिक गतिविधि

नीचे दिए गए विकल्पों में से सबसे उपयुक्त उत्तर का चयन कीजिए:

- 1. केवल A, B, C
- 2. केवल A, B, C, D
- 3. केवल A, B, D, E
- 4. केवल A, B, C, E

**Options :**

- 485584148429. 1
- 485584148430. 2
- 485584148431. 3
- 485584148432. 4

**Question Number : 229 Question Id : 48558437109 Question Type : MCQ Option Shuffling : No Is Question Mandatory : No Calculator : None Response Time : N.A Think Time : N.A Minimum Instruction Time : 0**

**Correct Marks : 5 Wrong Marks : 1**

**Question Key Details :**

Key	Value
Comprehension	MCQ

Which of the following water storage practices are used in the state of Rajasthan?

- A. Pynes
- B. Khadins
- C. Bhundhis
- D. Tanks
- E. Nadis

Choose the correct answer from the options given below:

1. A, B & E only
2. A, C & D only
3. B, D & E only
4. C, D & E only

**Options :**

- 485584148433. 1
- 485584148434. 2
- 485584148435. 3
- 485584148436. 4

**Question Number : 229 Question Id : 48558437109 Question Type : MCQ Option Shuffling : No Is Question Mandatory : No Calculator : None Response Time : N.A Think Time : N.A Minimum Instruction Time : 0**

**Correct Marks : 5 Wrong Marks : 1**

**Question Key Details :**

Key	Value
Comprehension	MCQ

राजस्थान राज्य में निम्नलिखित में से किन जल संग्रहण पद्धतियों का उपयोग किया जाता है?

- A. पाईन्स
- B. खड़ीन
- C. मुंडीस
- D. तालाब (Tanks)
- E. नाडीस

नीचे दिए गए विकल्पों में से सबसे उपयुक्त उत्तर का चयन कीजिए:

1. केवल A, B & E
2. केवल A, C & D
3. केवल B, D & E
4. केवल C, D & E

**Options :**

- 485584148433. 1
- 485584148434. 2
- 485584148435. 3
- 485584148436. 4

**Question Number : 230 Question Id : 48558437110 Question Type : MCQ Option Shuffling : No Is Question Mandatory : No Calculator : None Response Time : N.A Think Time : N.A Minimum Instruction Time : 0**

**Correct Marks : 5 Wrong Marks : 1**

**Question Key Details :**

Key	Value
Comprehension	MCQ

Which of the following is NOT a disadvantages of High Yielding Varieties (HYV) crops

1. Give less Fodder
2. Requires higher inputs
3. Early maturing
4. Require frequent weeding

**Options :**

485584148437. 1  
485584148438. 2  
485584148439. 3  
485584148440. 4

**Question Number : 230 Question Id : 48558437110 Question Type : MCQ Option Shuffling : No Is Question Mandatory : No Calculator : None Response Time : N.A Think Time : N.A Minimum Instruction Time : 0**

**Correct Marks : 5 Wrong Marks : 1**

**Question Key Details :**

Key	Value
Comprehension	MCQ

निम्न में से कौन सा उच्च उपज वाली फसलों का नुकसान नहीं है?

1. कम चारा उत्पादक
2. अधिक निवेश की आवश्यकता
3. जल्दी पकने वाली
4. बार बार निराई की आवश्यकता होती है

**Options :**

485584148437. 1  
485584148438. 2  
485584148439. 3  
485584148440. 4

**Question Number : 231 Question Id : 48558437111 Question Type : MCQ Option Shuffling : No Is Question Mandatory : No Calculator : None Response Time : N.A Think Time : N.A Minimum Instruction Time : 0**

**Correct Marks : 5 Wrong Marks : 1**

**Question Key Details :**

Key	Value
Comprehension	MCQ



Which of the following are advantages of Gross National Product (GDP)

- A. It is good indicator of the state of economy and provisions of services
- B. It is helpful in comparing the wealth of country with others.
- C. It excludes sale of used goods.
- D. Environmental impact is not taken into account.
- E. It measures the value of goods and services of the country.

Choose the correct answer from the options given below:

- 1. A and C only
- 2. A, B and E only
- 3. C, D and E only
- 4. B, C and D only

Options :

- 485584148441. 1
- 485584148442. 2
- 485584148443. 3
- 485584148444. 4

Question Number : 231 Question Id : 48558437111 Question Type : MCQ Option Shuffling : No Is Question Mandatory : No Calculator : None Response Time : N.A Think Time : N.A Minimum Instruction Time : 0

Correct Marks : 5 Wrong Marks : 1

Question Key Details :

Key	Value
Comprehension	MCQ

निम्नलिखित में से कौन से सकल राष्ट्रीय उत्पाद के लाभ हैं?

- A. यह अर्थव्यवस्था की स्थिति और सेवाओं के प्रावधानों का अच्छा संकेतक है।
- B. यह दुसरे देशों से देश के धन की तुलना करने में सहायक है।
- C. इसमें प्रयुक्त हो चुकी वस्तुओं की बिक्री शामिल नहीं है।
- D. इसमें पर्यावरण प्रभाव को ध्यान में नहीं रखा जाता है।
- E. यह देश की वस्तुओं और सेवाओं के मूल्य को मापता है।

नीचे दिए गए विकल्पों में से सबसे उपयुक्त उत्तर का चयन कीजिए:

- 1. केवल A और C
- 2. केवल A, B और E
- 3. केवल C, D और E
- 4. B, C और D

Options :

- 485584148441. 1
- 485584148442. 2
- 485584148443. 3
- 485584148444. 4

Question Number : 232 Question Id : 48558437112 Question Type : MCQ Option Shuffling : No Is Question Mandatory : No Calculator : None Response Time : N.A Think Time : N.A Minimum Instruction Time : 0

Correct Marks : 5 Wrong Marks : 1

Question Key Details :

Key	Value
Comprehension	MCQ

The cyclonic activities takes place in which layer of atmosphere?

1. Ionosphere
2. Mesosphere
3. Troposphere
4. Stratosphere

Options :

485584148445. 1  
485584148446. 2  
485584148447. 3  
485584148448. 4

Question Number : 232 Question Id : 48558437112 Question Type : MCQ Option Shuffling : No Is Question Mandatory : No Calculator : None Response Time : N.A Think Time : N.A Minimum Instruction Time : 0

Correct Marks : 5 Wrong Marks : 1

Question Key Details :

Key	Value
Comprehension	MCQ

चक्रवाती गतिविधियाँ वायुमंडल की किस परत में होती हैं?

1. आयन मंडल
2. मध्य मंडल
3. क्षीममंडल
4. समतापमंडल

Options :

485584148445. 1  
485584148446. 2  
485584148447. 3  
485584148448. 4

Question Number : 233 Question Id : 48558437113 Question Type : MCQ Option Shuffling : No Is Question Mandatory : No Calculator : None Response Time : N.A Think Time : N.A Minimum Instruction Time : 0

Correct Marks : 5 Wrong Marks : 1

Question Key Details :

Key	Value
Comprehension	MCQ

Which of the following is included in International aid during any relief programme.

- A. Professional Advice
- B. Financial Help
- C. Commodities
- D. Trainings

Choose the correct answer from the options given below:

1. B only
2. B, D only
3. A, C only
4. A, B, C, D only

**Options :**

485584148449. 1  
485584148450. 2  
485584148451. 3  
485584148452. 4

Question Number : 233 Question Id : 48558437113 Question Type : MCQ Option Shuffling : No Is Question Mandatory : No Calculator : None  
Response Time : N.A Think Time : N.A Minimum Instruction Time : 0

Correct Marks : 5 Wrong Marks : 1

**Question Key Details :**

Key	Value
Comprehension	MCQ

निम्नलिखित में से किसे किसी राहत कार्यक्रम के समय अन्तर्राष्ट्रीय सहायता में शामिल किया जाता है?

- A. व्यावसायिक परामर्श  
B. वित्तीय सहायता  
C. आवश्यक वस्तुएं  
D. प्रशिक्षण

1. केवल B

2. केवल B, D

3. कभीत A, C

4. केवल A, B, C, D

**Options :**

485584148449. 1  
485584148450. 2  
485584148451. 3  
485584148452. 4

Question Number : 234 Question Id : 48558437114 Question Type : MCQ Option Shuffling : No Is Question Mandatory : No Calculator : None  
Response Time : N.A Think Time : N.A Minimum Instruction Time : 0

Correct Marks : 5 Wrong Marks : 1

**Question Key Details :**

Key	Value
Comprehension	MCQ

Which of the following convention/protocol is enacted to ban production and use of the ozone depleting substances?

1. Kyoto Protocol

2. Basel Convention

3. Montreal Protocol

4. Bamako Convention

**Options :**

485584148453. 1  
485584148454. 2  
485584148455. 3  
485584148456. 4

Question Number : 234 Question Id : 48558437114 Question Type : MCQ Option Shuffling : No Is Question Mandatory : No Calculator : None  
Response Time : N.A Think Time : N.A Minimum Instruction Time : 0

Correct Marks : 5 Wrong Marks : 1

**Question Key Details :**

Key	Value
Comprehension	MCQ

निम्नलिखित में से कौन सा सम्मेलन / प्रोटोकॉल ओजोन क्षयकारी पदार्थों के उत्पादन और उपयोग पर प्रतिबंध लगाने के लिए अधिनियमित किया गया है?

1. क्योटो प्रोटोकॉल
2. बेसल कन्वेंशन
3. मॉन्ट्रियल प्रोटोकॉल
4. बर्माको कन्वेंशन

**Options :**

485584148453. 1  
485584148454. 2  
485584148455. 3  
485584148456. 4

Question Number : 235 Question Id : 48558437115 Question Type : MCQ Option Shuffling : No Is Question Mandatory : No Calculator : None Response Time : N.A Think Time : N.A Minimum Instruction Time : 0

Correct Marks : 5 Wrong Marks : 1

Question Key Details :

Key	Value
Comprehension	MCQ

सूची I का सूची II से मिलान कीजिए

सूची I Environmental Day		सूची II Date	
A.	Earth day	I.	June 5
B.	World Environment day	II.	March 22
C.	World Water day	III.	April 22
D.	World ozone day	IV.	September 16

निम्नलिखित विकल्पों में से सही उत्तर का चयन कीजिए :

1. A-I, B-III, C-II, D-IV
2. A-III, B-I, C-IV, D-II
3. A-III, B-II, C-I, D-IV
4. A-III, B-I, C-II, D-IV

**Options :**

485584148457. 1  
485584148458. 2  
485584148459. 3  
485584148460. 4

Question Number : 235 Question Id : 48558437115 Question Type : MCQ Option Shuffling : No Is Question Mandatory : No Calculator : None Response Time : N.A Think Time : N.A Minimum Instruction Time : 0

Correct Marks : 5 Wrong Marks : 1

Question Key Details :

Key	Value
Comprehension	MCQ

सूची I का सूची II से मिलान कीजिए

सूची I		सूची II	
पर्यावरण दिवस		तिथि	
A.	पृथ्वी दिवस	I.	5 जून
B.	विश्व पर्यावरण दिवस	II.	22 मार्च
C.	विश्व जल दिवस	III.	22 अप्रैल
D.	विश्व ओजोन दिवस	IV.	16 सितम्बर

निम्नलिखित विकल्पों में से सही उत्तर का चयन कीजिए :

1. A-I, B-III, C-II, D-IV

2. A-III, B-I, C-IV, D-II

3. A-III, B-II, C-I, D-IV

4. A-III, B-I, C-II, D-IV

**Options :**

485584148457. 1

485584148458. 2

485584148459. 3

485584148460. 4

**Question Number : 236 Question Id : 48558437116 Question Type : MCQ Option Shuffling : No Is Question Mandatory : No Calculator : None Response Time : N.A Think Time : N.A Minimum Instruction Time : 0**

**Correct Marks : 5 Wrong Marks : 1**

**Question Key Details :**

Key	Value
Comprehension	MCQ

'OECD' stand for \_\_\_\_\_

1. Organisation for Environment and Credit Development

2. Organisation for Ecology and Cooperation Development

3. Organisation for Economic and Cooperation Development

4. Organisation for Ecosystem and Credit Development

**Options :**

485584148461. 1

485584148462. 2

485584148463. 3

485584148464. 4

**Question Number : 236 Question Id : 48558437116 Question Type : MCQ Option Shuffling : No Is Question Mandatory : No Calculator : None Response Time : N.A Think Time : N.A Minimum Instruction Time : 0**

**Correct Marks : 5 Wrong Marks : 1**

**Question Key Details :**

Key	Value
Comprehension	MCQ

'OECD' से क्या तात्पर्य है -

1. ऑर्गेनाईजेशन फॉर एनवायरमेंट एण्ड क्रेडिट डवलपमेंट
2. ऑर्गेनाईजेशन फॉर इकोलोजी एण्ड क्रेडिट कोपरेशन डवलपमेंट
3. ऑर्गेनाईजेशन फॉर इकोनॉमिक एण्ड कोपरेशन डवलपमेंट
4. ऑर्गेनाईजेशन फॉर इकोसिस्टम क्रेडिट डवलपमेंट

**Options :**

485584148461. 1  
485584148462. 2  
485584148463. 3  
485584148464. 4

**Question Number : 237 Question Id : 48558437117 Question Type : MCQ Option Shuffling : No Is Question Mandatory : No Calculator : None Response Time : N.A Think Time : N.A Minimum Instruction Time : 0**

**Correct Marks : 5 Wrong Marks : 1**

**Question Key Details :**

Key	Value
Comprehension	MCQ

Which of the following is NOT a green house gas?

1. Ozone
2. Nitrous oxide
3. Water vapor
4. Nitrogen dioxide

**Options :**

485584148465. 1  
485584148466. 2  
485584148467. 3  
485584148468. 4

**Question Number : 237 Question Id : 48558437117 Question Type : MCQ Option Shuffling : No Is Question Mandatory : No Calculator : None Response Time : N.A Think Time : N.A Minimum Instruction Time : 0**

**Correct Marks : 5 Wrong Marks : 1**

**Question Key Details :**

Key	Value
Comprehension	MCQ

निम्नलिखित में से कौन सी ग्रीनहाउस गैस नहीं है ?

1. ओजोन
2. नाइट्रस ऑक्साइड
3. जलवाष्प
4. नाइट्रोजन डाइऑक्साइड

**Options :**

485584148465. 1  
485584148466. 2  
485584148467. 3  
485584148468. 4

Question Number : 238 Question Id : 48558437118 Question Type : MCQ Option Shuffling : No Is Question Mandatory : No Calculator : None Response Time : N.A Think Time : N.A Minimum Instruction Time : 0

Correct Marks : 5 Wrong Marks : 1

Question Key Details :

Key	Value
Comprehension	MCQ

Ecological foot print (EFP) measurement does not include:

1. Demand of human from productive land and sea area
2. Consumption of resources by human population
3. Amount of waste generated by human population
4. Mitigation of one ton of CO<sub>2</sub> or equivalent of other GHG

Options :

- 485584148469. 1
- 485584148470. 2
- 485584148471. 3
- 485584148472. 4

Question Number : 238 Question Id : 48558437118 Question Type : MCQ Option Shuffling : No Is Question Mandatory : No Calculator : None Response Time : N.A Think Time : N.A Minimum Instruction Time : 0

Correct Marks : 5 Wrong Marks : 1

Question Key Details :

Key	Value
Comprehension	MCQ

पारिस्थितिक पदचिन्ह (ई एफ पी.) माप में शामिल नहीं है:

1. उत्पादक भूमि और समुद्र से मानव की मांग
2. मानव जनसंख्या द्वारा संसाधनों की खपत
3. मानव जनसंख्या द्वारा उत्पन्न कचरे की मात्रा
4. एक टन CO<sub>2</sub> या अन्य ग्रीनहाउस गैस के समतुल्य का शमन

Options :

- 485584148469. 1
- 485584148470. 2
- 485584148471. 3
- 485584148472. 4

Question Number : 239 Question Id : 48558437119 Question Type : MCQ Option Shuffling : No Is Question Mandatory : No Calculator : None Response Time : N.A Think Time : N.A Minimum Instruction Time : 0

Correct Marks : 5 Wrong Marks : 1

Question Key Details :

Key	Value
Comprehension	MCQ

Arrange the following in the increasing order of frequency?

- A. X-rays
- B. Radiowaves
- C. Gamma-rays
- D. Ultra-violet rays
- E. Microwaves

Choose the correct answer from the options given below:

- 1. C, A, D, E, B
- 2. E, B, D, C, A
- 3. B, E, D, A, C
- 4. A, C, D, B, E

**Options :**

- 485584148473. 1
- 485584148474. 2
- 485584148475. 3
- 485584148476. 4

**Question Number : 239 Question Id : 48558437119 Question Type : MCQ Option Shuffling : No Is Question Mandatory : No Calculator : None Response Time : N.A Think Time : N.A Minimum Instruction Time : 0**

**Correct Marks : 5 Wrong Marks : 1**

**Question Key Details :**

Key	Value
Comprehension	MCQ

आवृत्ति के बढ़ते क्रम में निम्नलिखित को व्यवस्थित करें?

- A. एक्स-रे
- B. रेडियोतरंग
- C. गामा-रे
- D. पराबैंगनी किरणें
- E. सूक्ष्मतरंगे (माइक्रोवेव)

नीचे दिए गए विकल्पों में से सही का चयन करें:

- 1. C, A, D, E, B
- 2. E, B, D, C, A
- 3. B, E, D, A, C
- 4. A, C, D, B, E

**Options :**

- 485584148473. 1
- 485584148474. 2
- 485584148475. 3
- 485584148476. 4

**Question Number : 240 Question Id : 48558437120 Question Type : MCQ Option Shuffling : No Is Question Mandatory : No Calculator : None Response Time : N.A Think Time : N.A Minimum Instruction Time : 0**

**Correct Marks : 5 Wrong Marks : 1**

**Question Key Details :**

Key	Value
Comprehension	MCQ



IPCC stands for

1. Intergovernmental Panel on Climate Change
2. International Provisions for Climate Change
3. International Policies for Climate Change
4. Intergovernmental Policies for Climate Change

Options :

485584148477. 1  
485584148478. 2  
485584148479. 3  
485584148480. 4

Question Number : 240 Question Id : 48558437120 Question Type : MCQ Option Shuffling : No Is Question Mandatory : No Calculator : None  
Response Time : N.A Think Time : N.A Minimum Instruction Time : 0

Correct Marks : 5 Wrong Marks : 1

Question Key Details :

Key	Value
Comprehension	MCQ

आई. पी. सी. सी. से तात्पर्य है -

1. इंटरगवर्नमेंटल पैनल ऑन क्लाइमेट चेंज
2. इंटरनेशनल प्रोविजन फॉर क्लाइमेट चेंज
3. इंटरनेशनल पॉलिसी फॉर क्लाइमेट चेंज
4. इंटरगवर्नमेंटल पॉलिसी फॉर क्लाइमेट चेंज

Options :

485584148477. 1  
485584148478. 2  
485584148479. 3  
485584148480. 4

Sub-Section Number :

2

Sub-Section Id :

4855842796

Question Shuffling Allowed :

No

Is Section Default? :

null

Question Number : 241 Question Id : 48558437121 Question Type : MCQ Option Shuffling : No Is Question Mandatory : No Calculator : None  
Response Time : N.A Think Time : N.A Minimum Instruction Time : 0

Correct Marks : 5 Wrong Marks : 1

Question Key Details :

Key	Value
Comprehension	Comp1

Water pollution is one of the major environmental issue in present era. Various anthropogenic activities are responsible for water contamination. For example, agricultural runoff can cause the eutrophication in lakes and ponds. Biological oxygen demand (BOD), chemical oxygen demand (COD), turbidity, electrical conductivity, pH and concentrations of major ions/ metals are the important parameters to determine the suitability of water use for different purposes. Drinking of contaminated water can cause several health problems. Moreover, some pollutants such as heavy metals, pesticides etc. can be more toxic to aquatic organisms even at low concentration. This happens, because the concentration of these kinds of pollutants increases from one trophic level to another trophic levels in the aquatic food chain.

A contaminated water body has 0.003 ppm DDT concentration. Which of the following aquatic organism living in the water body will have highest concentration of DDT?

1. Zooplankton
2. Small fish
3. Large fish
4. Fish eating birds

Options :

485584148481. 1  
485584148482. 2  
485584148483. 3  
485584148484. 4

Question Number : 241 Question Id : 48558437121 Question Type : MCQ Option Shuffling : No Is Question Mandatory : No Calculator : None Response Time : N.A Think Time : N.A Minimum Instruction Time : 0

Correct Marks : 5 Wrong Marks : 1

Question Key Details :

Key	Value
Comprehension	Comp1

गद्यांश पढ़ें और प्रश्नों के उत्तर दें।

जल प्रदूषण वर्तमान युग में प्रमुख पर्यावरणीय मुद्दों में से एक है। जल प्रदूषण के लिए विभिन्न मानव जनित गतिविधियाँ उत्तरदायी हैं, उदाहरण के लिए कृषि सम्बन्धित अवशिष्ट पदार्थ, झीलों और तालाबों में जल सुपोषण का कारण बन सकते हैं। जैविक आक्सीजन की मांग, रासायनिक आक्सीजन की मांग, मैलापन, विद्युत चालकता, pH और प्रमुख आयनों की सांद्रता, उद्देश्यों के लिए पानी की गुणवत्ता के मानक हैं। दूषित पानी पीने से कई स्वास्थ्य समस्याएं हो सकती हैं। इसके अलावा कुछ प्रदूषक जैसे भारी धातु, कीटनाशक आदि कम सांद्रता पर भी जलीय जीवों के लिए अधिक विषैले हो सकते हैं। ऐसा इसलिए होता है क्योंकि जलीय खाद्य श्रृंखला में इस प्रकार के प्रदूषकों की सांद्रता एक पोषी स्तर से दूसरे पोषी स्तर तक बढ़ जाती है।

दूषित जल निकाय में 0.003 ppm (पीपीएम) डीडीटी (DDT) सांद्रता है। निम्नलिखित जल निकाय में रहने वाले जीवों में से किस जलीय जीव में डीडीटी की उच्चतम सांद्रता होगी?

1. जन्तुप्लवक
2. छोटी मछली
3. बड़ी मछली
4. मछली खाने वाले पक्षी

Options :

485584148481. 1  
485584148482. 2  
485584148483. 3  
485584148484. 4

Question Number : 242 Question Id : 48558437122 Question Type : MCQ Option Shuffling : No Is Question Mandatory : No Calculator : None Response Time : N.A Think Time : N.A Minimum Instruction Time : 0

Correct Marks : 5 Wrong Marks : 1

Question Key Details :

Key	Value
Comprehension	Comp1

Water pollution is one of the major environmental issue in present era. Various anthropogenic activities are responsible for water contamination. For example, agricultural runoff can cause the eutrophication in lakes and ponds. Biological oxygen demand (BOD), chemical oxygen demand (COD), turbidity, electrical conductivity, pH and concentrations of major ions/ metals are the important parameters to determine the suitability of water use for different purposes. Drinking of contaminated water can cause several health problems. Moreover, some pollutants such as heavy metals, pesticides etc. can be more toxic to aquatic organisms even at low concentration. This happens, because the concentration of these kinds of pollutants increases from one trophic level to another trophic levels in the aquatic food chain.

Which of the following is NOT the correct statement in the context of eutrophide lake?

1. The water has high BOD
2. Dissolved oxygen gets low in the water
3. Phytoplankon population are very low in the lake
4. Mortality of fishes increases in the lake

Options :

485584148485. 1  
 485584148486. 2  
 485584148487. 3  
 485584148488. 4

Question Number : 242 Question Id : 48558437122 Question Type : MCQ Option Shuffling : No Is Question Mandatory : No Calculator : None Response Time : N.A Think Time : N.A Minimum Instruction Time : 0

Correct Marks : 5 Wrong Marks : 1

Question Key Details :

Key	Value
Comprehension	Comp1

गद्यांश पढ़ें और प्रश्नों के उत्तर दें।

जल प्रदूषण वर्तमान युग में प्रमुख पर्यावरणीय मुद्दों में से एक है। जल प्रदूषण के लिए विभिन्न मानव जनित गतिविधियाँ उत्तरदायी हैं, उदाहरण के लिए कृषि सम्बन्धित अवशिष्ट पदार्थ, झीलों और तालाबों में जल सुपोषण का कारण बन सकते हैं। जैविक आक्सीजन की मांग, रासायनिक आक्सीजन की मांग, मेलापन, विद्युत् चालकता, pH और प्रमुख आयनों की सांद्रता, उद्देश्यों के लिए पानी की गुणवत्ता के मानक हैं। दूषित पानी पीने से कई स्वास्थ्य समस्याएं हो सकती हैं। इसके अलावा कुछ प्रदूषक जैसे भारी धातु, कीटनाशक आदि कम सांद्रता पर भी जलीय जीवों के लिए अधिक विषैले हो सकते हैं। ऐसा इसलिए होता है क्योंकि जलीय खाद्य श्रृंखला में इस प्रकार के प्रदूषकों की सांद्रता एक पोषी स्तर से दूसरे पोषी स्तर तक बढ़ जाती है।

यूट्रोफाइड झील के संदर्भ में निम्नलिखित में से कौन सा कथन सही नहीं है?

1. पानी में उच्च बी.ओ.डी. है
2. पानी में घुलीत आक्सीजन कम हो जाती है
3. झील में पादप प्लवक की जनसंख्या बहुत कम है
4. झील में मछलियों की मृत्यु दर बढ़ जाती है

Options :

485584148485. 1  
 485584148486. 2  
 485584148487. 3  
 485584148488. 4

Question Number : 243 Question Id : 48558437123 Question Type : MCQ Option Shuffling : No Is Question Mandatory : No Calculator : None Response Time : N.A Think Time : N.A Minimum Instruction Time : 0

Correct Marks : 5 Wrong Marks : 1

Question Key Details :

Key	Value
Comprehension	Comp1

Water pollution is one of the major environmental issue in present era. Various anthropogenic activities are responsible for water contamination. For example, agricultural runoff can cause the eutrophication in lakes and ponds. Biological oxygen demand (BOD), chemical oxygen demand (COD), turbidity, electrical conductivity, pH and concentrations of major ions/ metals are the important parameters to determine the suitability of water use for different purposes. Drinking of contaminated water can cause several health problems. Moreover, some pollutants such as heavy metals, pesticides etc. can be more toxic to aquatic organisms even at low concentration. This happens, because the concentration of these kinds of pollutants increases from one trophic level to another trophic levels in the aquatic food chain.

Which of the following is a acceptable range of pH in drinking water as per the Bureau of Indian Standards \_\_\_\_\_

1. 7.0 to 8.0
2. 6.5 to 8.5
3. 5.5 to 7.5
4. 7.5 to 9.0

Options :

485584148489. 1  
485584148490. 2  
485584148491. 3  
485584148492. 4

Question Number : 243 Question Id : 48558437123 Question Type : MCQ Option Shuffling : No Is Question Mandatory : No Calculator : None Response Time : N.A Think Time : N.A Minimum Instruction Time : 0

Correct Marks : 5 Wrong Marks : 1

Question Key Details :

Key	Value
Comprehension	Comp1

गद्यांश पढ़ें और प्रश्नों के उत्तर दें।

जल प्रदूषण वर्तमान युग में प्रमुख पर्यावरणीय मुद्दों में से एक है। जल प्रदूषण के लिए विभिन्न मानव जनित गतिविधियाँ उत्तरदायी हैं, उदाहरण के लिए कृषि सम्बन्धित अवशिष्ट पदार्थ, झीलों और तालाबों में जल सुपोषण का कारण बन सकते हैं। जैविक आक्सीजन की मांग, रासायनिक आक्सीजन की मांग, मैलापन, विद्युत् चालकता, pH और प्रमुख आयनों की सांद्रता, उद्देश्यों के लिए पानी की गुणवत्ता के मानक हैं। दूषित पानी पीने से कई स्वास्थ्य समस्याएं हो सकती हैं। इसके अलावा कुछ प्रदूषक जैसे भारी धातु, कीटनाशक आदि कम सांद्रता पर भी जलीय जीवों के लिए अधिक विषैले हो सकते हैं। ऐसा इसलिए होता है क्योंकि जलीय खाद्य श्रृंखला में इस प्रकार के प्रदूषकों की सांद्रता एक पोषी स्तर से दूसरे पोषी स्तर तक बढ़ जाती है।

भारतीय मानक संघ के अनुशार निम्नलिखित में से कौन सी पीने के पानी के लिए पीएच (pH) की स्वीकार्य सीमा है?

1. 7.0 to 8.0
2. 6.5 to 8.5
3. 5.5 to 7.5
4. 7.5 to 9.0

**Options :**

485584148489. 1  
 485584148490. 2  
 485584148491. 3  
 485584148492. 4

Question Number : 244 Question Id : 48558437124 Question Type : MCQ Option Shuffling : No Is Question Mandatory : No Calculator : None  
 Response Time : N.A Think Time : N.A Minimum Instruction Time : 0

Correct Marks : 5 Wrong Marks : 1

**Question Key Details :**

Key	Value
Comprehension	Comp1

Water pollution is one of the major environmental issue in present era. Various anthropogenic activities are responsible for water contamination. For example, agricultural runoff can cause the eutrophication in lakes and ponds. Biological oxygen demand (BOD), chemical oxygen demand (COD), turbidity, electrical conductivity, pH and concentrations of major ions/ metals are the important parameters to determine the suitability of water use for different purposes. Drinking of contaminated water can cause several health problems. Moreover, some pollutants such as heavy metals, pesticides etc. can be more toxic to aquatic organisms even at low concentration. This happens, because the concentration of these kinds of pollutants increases from one trophic level to another trophic levels in the aquatic food chain.

Which of the following is not a water born disease?

1. Cholera
2. Typhoid fever
3. Mumps
4. Giardia

**Options :**

485584148493. 1  
 485584148494. 2  
 485584148495. 3  
 485584148496. 4

Question Number : 244 Question Id : 48558437124 Question Type : MCQ Option Shuffling : No Is Question Mandatory : No Calculator : None  
 Response Time : N.A Think Time : N.A Minimum Instruction Time : 0

Correct Marks : 5 Wrong Marks : 1

**Question Key Details :**

Key	Value
Comprehension	Comp1

गद्यांश पढ़ें और प्रश्नों के उत्तर दें।

जल प्रदूषण वर्तमान युग में प्रमुख पर्यावरणीय मुद्दों में से एक है। जल प्रदूषण के लिए विभिन्न मानव जनित गतिविधियाँ उत्तरदायी हैं, उदाहरण के लिए कृषि सम्बन्धित अवशिष्ट पदार्थ, झीलों और तालाबों में जल सुपोषण का कारण बन सकते हैं। जैविक आक्सीजन की मांग, रासायनिक आक्सीजन की मांग, मैलापन, विद्युत चालकता, pH और प्रमुख आयनों की सांद्रता, उद्देश्यों के लिए पानी की गुणवत्ता के मानक हैं। दूषित पानी पीने से कई स्वास्थ्य समस्याएं हो सकती हैं। इसके अलावा कुछ प्रदूषक जैसे भारी धातु, कीटनाशक आदि कम सांद्रता पर भी जलीय जीवों के लिए अधिक विषैले हो सकते हैं। ऐसा इसलिए होता है क्योंकि जलीय खाद्य श्रृंखला में इस प्रकार के प्रदूषकों की सांद्रता एक पोषी स्तर से दूसरे पोषी स्तर तक बढ़ जाती है।

निम्नलिखित में से कौन सा जल जनित रोग नहीं है?

1. कोलेरा
2. टाइफाइड बुखार
3. कनपड़ा (मम्पस्)
4. जिआर्डिया

**Options :**

485584148493. 1  
485584148494. 2  
485584148495. 3  
485584148496. 4

**Question Number : 245 Question Id : 48558437125 Question Type : MCQ Option Shuffling : No Is Question Mandatory : No Calculator : None Response Time : N.A Think Time : N.A Minimum Instruction Time : 0**

**Correct Marks : 5 Wrong Marks : 1**

**Question Key Details :**

Key	Value
Comprehension	Compl

Water pollution is one of the major environmental issue in present era. Various anthropogenic activities are responsible for water contamination. For example, agricultural runoff can cause the eutrophication in lakes and ponds. Biological oxygen demand (BOD), chemical oxygen demand (COD), turbidity, electrical conductivity, pH and concentrations of major ions/ metals are the important parameters to determine the suitability of water use for different purposes. Drinking of contaminated water can cause several health problems. Moreover, some pollutants such as heavy metals, pesticides etc. can be more toxic to aquatic organisms even at low concentration. This happens , because the concentration of these kinds of pollutants increases from one trophic level to another trophic levels in the aquatic food chain.

The increase in the concentration of a pollutant from one trophic level to another trophic levels in a aquatic food chain is called as

1. Bio- accumulation
2. Bio- magnification
3. Bio- ramification
4. Bio- neutrization

**Options :**

485584148497. 1  
485584148498. 2  
485584148499. 3  
485584148500. 4

**Question Number : 245 Question Id : 48558437125 Question Type : MCQ Option Shuffling : No Is Question Mandatory : No Calculator : None Response Time : N.A Think Time : N.A Minimum Instruction Time : 0**

**Correct Marks : 5 Wrong Marks : 1**

**Question Key Details :**

Key	Value
Comprehension	Compl

गद्यांश पढ़ें और प्रश्नों के उत्तर दें।

जल प्रदूषण वर्तमान युग में प्रमुख पर्यावरणीय मुद्दों में से एक है। जल प्रदूषण के लिए विभिन्न मानव जनित गतिविधियाँ उत्तरदायी हैं, उदाहरण के लिए कृषि सम्बन्धित अवशिष्ट पदार्थ, झीलों और तालाबों में जल सुपोषण का कारण बन सकते हैं। जैविक आक्सीजन की मांग, रासायनिक आक्सीजन की मांग, मिलापन, विद्युत चालकता, pH और प्रमुख आयनों की सांद्रता, उद्देश्यों के लिए पानी की गुणवत्ता के मानक हैं। दूषित पानी पीने से कई स्वास्थ्य समस्याएँ हो सकती हैं। इसके अलावा कुछ प्रदूषक जैसे भारी धातु, कीटनाशक आदि कम सांद्रता पर भी जलीय जीवों के लिए अधिक विषैले हो सकते हैं। ऐसा इसलिए होता है क्योंकि जलीय खाद्य श्रृंखला में इस प्रकार के प्रदूषकों की सांद्रता एक पोषी स्तर से दूसरे पोषी स्तर तक बढ़ जाती है।

जलीय खाद्य श्रृंखला में एक पोषी स्तर से दूसरे पोषी स्तर तक प्रदूषकों की सांद्रता में वृद्धि को कहते हैं

1. जैव संचय
2. जैव आवर्धन
3. जैव शाखाकरण
4. जैव पोषण

**Options :**

485584148497. 1  
485584148498. 2  
485584148499. 3  
485584148500. 4

**Sub-Section Number :**

3

**Sub-Section Id :**

4855842797

**Question Shuffling Allowed :**

No

**Is Section Default? :**

null

**Question Number : 246 Question Id : 48558437126 Question Type : MCQ Option Shuffling : No Is Question Mandatory : No Calculator : None Response Time : N.A Think Time : N.A Minimum Instruction Time : 0**

**Correct Marks : 5 Wrong Marks : 1**

**Question Key Details :**

Key	Value
Comprehension	Comp2

An externality can be defined as the cost or benefit that affect a party who did not choose to incur that cost or benefit. During a transaction between a buyer or seller a third party might get uninvitingly involved showing positive or negative effects. If an external cost exists, the producer may choose to produce more of the product than would be produced if the producer were required to pay all associated external costs. For external benefits, less of goods may be produced than if the producer were to receive payment for the external benefit to others. So, overall cost and benefit to society is defined as sum of input monetary value of benefits and costs to all parties involved.

Externalities can impact which of the following :

1. Only producers
2. Only Consumers
3. Both producers and consumers when they transact
4. Entire society or community associated

**Options :**

485584148501. 1  
485584148502. 2  
485584148503. 3

Question Number : 246 Question Id : 48558437126 Question Type : MCQ Option Shuffling : No Is Question Mandatory : No Calculator : None  
Response Time : N.A Think Time : N.A Minimum Instruction Time : 0

Correct Marks : 5 Wrong Marks : 1

Question Key Details :

Key	Value
Comprehension	Comp2

एक बाह्यता को लागत या लाभ के रूप में परिभाषित किया जा सकता है, जो उस पार्टी को प्रभावित करता है जिसने उस लागत या लाभ को लेने का विकल्प नहीं चुना। खरीददार या विक्रेता के बीच लेन-देन के समय कोई तीसरा पक्ष सकारात्मक या नकारात्मक प्रभाव दिखाते हुए आकर्षक रूप में शामिल हो सकता है। यदि बाहरी लागत विद्यमान है, उत्पादक को सभी संबंधित बाहरी लागतों का भुगतान करने की आवश्यकता है तो उत्पादक, उत्पादन की तुलना में अधिक उत्पाद का उत्पादन करने का विकल्प चुन सकता है। बाहरी लाभों के लिए, उत्पादक यदि उत्पादक दूसरो को बाह्य लाभ करने के लिए राशि प्राप्त करता है तो कम वस्तुओं का उत्पादन कर सकता है। इसलिए समग्र लागत और सामाजिक लाभ को इसमें शामिल सभी पक्षों के लाभ और लागत के निवेश, मौद्रिक मूल्य के योग के रूप में परिभाषित किया गया है।

बाह्यताएं, निम्नलिखित में से किसे प्रभावित कर सकती है?

1. केवल उत्पादक
2. केवल उपभोक्ता
3. उत्पादक और उपभोक्ता दोनों को जब वे लेन-देन करते हैं
4. संपूर्ण समाज या संबद्धित समुदाय

Options :

485584148501. 1  
485584148502. 2  
485584148503. 3  
485584148504. 4

Question Number : 247 Question Id : 48558437127 Question Type : MCQ Option Shuffling : No Is Question Mandatory : No Calculator : None  
Response Time : N.A Think Time : N.A Minimum Instruction Time : 0

Correct Marks : 5 Wrong Marks : 1

Question Key Details :

Key	Value
Comprehension	Comp2

An externality can be defined as the cost or benefit that affect a party who did not choose to incur that cost or benefit. During a transaction between a buyer or seller a third party might get uninvitingly involved showing positive or negative effects. If an external cost exists, the producer may choose to produce more of the product than would be produced if the producer were required to pay all associated external costs. For external benefits, less of goods may be produced than if the producer were to receive payment for the external benefit to others. So, overall cost and benefit to society is defined as sum of input monetary value of benefits and costs to all parties involved.

Air pollution by vehicular exhaust causing damage to buildings is an example of:

1. Negative production externality
2. Positive production externality
3. Negative consumption externality
4. Positive consumption externality



**Options :**

485584148505. 1  
 485584148506. 2  
 485584148507. 3  
 485584148508. 4

**Question Number : 247 Question Id : 48558437127 Question Type : MCQ Option Shuffling : No Is Question Mandatory : No Calculator : None Response Time : N.A Think Time : N.A Minimum Instruction Time : 0**

**Correct Marks : 5 Wrong Marks : 1**

**Question Key Details :**

Key	Value
Comprehension	Comp2

एक बाह्यता को लागत या लाभ के रूप में परिभाषित किया जा सकता है, जो उस पार्टी को प्रभावित करता है जिसने उस लागत या लाभ को लेने का विकल्प नहीं चुना। खरीददार या विक्रेता के बीच लेन-देन के समय कोई तीसरा पक्ष सकारात्मक या नकारात्मक प्रभाव दिखाते हुए आकर्षक रूप में शामिल हो सकता है। यदि बाहरी लागत विद्यमान है, उत्पादक को सभी संबंधित बाहरी लागतों का भुगतान करने की आवश्यकता है तो उत्पादक, उत्पादन की तुलना में अधिक उत्पाद का उत्पादन करने का विकल्प चुन सकता है। बाहरी लाभों के लिए, उत्पादक यदि उत्पादक दूसरो को बाह्य लाभ करने के लिए राशि प्राप्त करता है तो कम वस्तुओं का उत्पादन कर सकता है। इसलिए समग्र लागत और सामाजिक लाभ को इसमें शामिल सभी पक्षों के लाभ और लागत के निवेश, मौद्रिक मूल्य के योग के रूप में परिभाषित किया गया है।

वाहनों के धुएं से इमारत को नुकसान पहुंचाने वाला वायु प्रदूषण निम्न में से किसका उदाहरण है?

1. नकारात्मक उत्पादन बाह्यता
2. सकारात्मक उत्पादन बाह्यता
3. नकारात्मक उपभोग बाह्यता
4. सकारात्मक उपभोग (खपत) बाह्यता

**Options :**

485584148505. 1  
 485584148506. 2  
 485584148507. 3  
 485584148508. 4

**Question Number : 248 Question Id : 48558437128 Question Type : MCQ Option Shuffling : No Is Question Mandatory : No Calculator : None Response Time : N.A Think Time : N.A Minimum Instruction Time : 0**

**Correct Marks : 5 Wrong Marks : 1**

**Question Key Details :**

Key	Value
Comprehension	Comp2

An externality can be defined as the cost or benefit that affect a party who did not choose to incur that cost or benefit. During a transaction between a buyer or seller a third party might get uninvitingly involved showing positive or negative effects. If an external cost exists, the producer may choose to produce more of the product than would be produced if the producer were required to pay all associated external costs. For external benefits, less of goods may be produced than if the producer were to receive payment for the external benefit to others. So, overall cost and benefit to society is defined as sum of input monetary value of benefits and costs to all parties involved.

Improved health status due to better housing projects in a society is an example of:

1. Positive Production externality
2. Negative Production externality
3. Negative consumption externality
4. Positive consumption externality

Options :

485584148509. 1  
485584148510. 2  
485584148511. 3  
485584148512. 4

Question Number : 248 Question Id : 48558437128 Question Type : MCQ Option Shuffling : No Is Question Mandatory : No Calculator : None Response Time : N.A Think Time : N.A Minimum Instruction Time : 0

Correct Marks : 5 Wrong Marks : 1

Question Key Details :

Key	Value
Comprehension	Comp2

एक बाह्यता को लागत या लाभ के रूप में परिभाषित किया जा सकता है, जो उस पार्टी को प्रभावित करता है जिसने उस लागत या लाभ को लेने का विकल्प नहीं चुना। खरीददार या विक्रेता के बीच लेन-देन के समय कोई तीसरा पक्ष सकारात्मक या नकारात्मक प्रभाव दिखाते हुए आकर्षक रूप में शामिल हो सकता है। यदि बाहरी लागत विद्यमान है, उत्पादक को सभी संबंधित बाहरी लागतों का भुगतान करने की आवश्यकता है तो उत्पादक, उत्पादन की तुलना में अधिक उत्पाद का उत्पादन करने का विकल्प चुन सकता है। बाहरी लाभों के लिए, उत्पादक यदि उत्पादक दूसरो को बाह्य लाभ करने के लिए राशि प्राप्त करता है तो कम वस्तुओं का उत्पादन कर सकता है। इसलिए समग्र लागत और सामाजिक लाभ को इसमें शामिल सभी पक्षों के लाभ और लागत के निवेश, मौद्रिक मूल्य के योग के रूप में परिभाषित किया गया है।

किसी समाज में बेहतर आवास परियोजनाओं के कारण स्वास्थ्य की स्थिति में सुधार किसका एक उदाहरण है?

1. सकारात्मक उत्पादन बाह्यता
2. नकारात्मक उत्पादन बाह्यता
3. नकारात्मक उपभोग बाह्यता
4. सकारात्मक उपभोग (खपत) बाह्यता

Options :

485584148509. 1  
485584148510. 2  
485584148511. 3  
485584148512. 4

Question Number : 249 Question Id : 48558437129 Question Type : MCQ Option Shuffling : No Is Question Mandatory : No Calculator : None Response Time : N.A Think Time : N.A Minimum Instruction Time : 0

Correct Marks : 5 Wrong Marks : 1

Question Key Details :

Key	Value
Comprehension	Comp2

An externality can be defined as the cost or benefit that affect a party who did not choose to incur that cost or benefit. During a transaction between a buyer or seller a third party might get uninvitingly involved showing positive or negative effects. If an external cost exists, the producer may choose to produce more of the product than would be produced if the producer were required to pay all associated external costs. For external benefits, less of goods may be produced than if the producer were to receive payment for the external benefit to others. So, overall cost and benefit to society is defined as sum of input monetary value of benefits and costs to all parties involved.

Externalities lead to development of inefficient markets for goods and services because:

1. Producers are always at a loss
2. Consumers are always benefitted
3. Prices do not reflect the full social cost or benefits of their transactions
4. Both producers and consumers eventually end up with losses

**Options :**

- 485584148513. 1
- 485584148514. 2
- 485584148515. 3
- 485584148516. 4

**Question Number : 249 Question Id : 48558437129 Question Type : MCQ Option Shuffling : No Is Question Mandatory : No Calculator : None Response Time : N.A Think Time : N.A Minimum Instruction Time : 0**

**Correct Marks : 5 Wrong Marks : 1**

**Question Key Details :**

Key	Value
Comprehension	Comp2

एक बाह्यता को लागत या लाभ के रूप में परिभाषित किया जा सकता है, जो उस पार्टी को प्रभावित करता है जिसने उस लागत या लाभ को लेने का विकल्प नहीं चुना। खरीददार या विक्रेता के बीच लेन-देन के समय कोई तीसरा पक्ष सकारात्मक या नकारात्मक प्रभाव दिखाते हुए आकर्षक रूप में शामिल हो सकता है। यदि बाहरी लागत विद्यमान है, उत्पादक को सभी संबंधित बाहरी लागतों का भुगतान करने की आवश्यकता है तो उत्पादक, उत्पादन की तुलना में अधिक उत्पाद का उत्पादन करने का विकल्प चुन सकता है। बाहरी लाभों के लिए, उत्पादक यदि उत्पादक दूसरो को बाह्य लाभ करने के लिए राशि प्राप्त करता है तो कम वस्तुओं का उत्पादन कर सकता है। इसलिए समग्र लागत और सामाजिक लाभ को इसमें शामिल सभी पक्षों के लाभ और लागत के निवेश, मौद्रिक मूल्य के योग के रूप में परिभाषित किया गया है।

बाह्यताएं वस्तुओं और सेवाओं के अकुशल बाजारों का विकास करती हैं क्योंकि:

1. उत्पादक हमेशा नुकसान में होते हैं
2. उपभोक्ता हमेशा लाभान्वित होते हैं
3. किमतों में लेन देन से संबंधित, पूर्ण सामाजिक लागत या लाभ को प्रतिबिंबित नहीं होता
4. अन्ततः उत्पादक और उपभोक्ता दोनों को नुकसान होता है

**Options :**

- 485584148513. 1
- 485584148514. 2
- 485584148515. 3
- 485584148516. 4

**Question Number : 250 Question Id : 48558437130 Question Type : MCQ Option Shuffling : No Is Question Mandatory : No Calculator : None Response Time : N.A Think Time : N.A Minimum Instruction Time : 0**

Correct Marks : 5 Wrong Marks : 1

Question Key Details :

Key	Value
Comprehension	Comp2

An externality can be defined as the cost or benefit that affect a party who did not choose to incur that cost or benefit. During a transaction between a buyer or seller a third party might get uninvitingly involved showing positive or negative effects. If an external cost exists, the producer may choose to produce more of the product than would be produced if the producer were required to pay all associated external costs. For external benefits, less of goods may be produced than if the producer were to receive payment for the external benefit to others. So, overall cost and benefit to society is defined as sum of input monetary value of benefits and costs to all parties involved.

Which of the following is not true with respect to externalities?

1. Externalities may be considered during Cost Benefit Analysis
2. Externalities lead to socially optimal results with enhanced social utility
3. Externalities can form the basis of better "polluter pays" regulation
4. Externalities can lead to the people enjoying external benefits at no extra cost

Options :

485584148517. 1  
485584148518. 2  
485584148519. 3  
485584148520. 4

Question Number : 250 Question Id : 48558437130 Question Type : MCQ Option Shuffling : No Is Question Mandatory : No Calculator : None Response Time : N.A Think Time : N.A Minimum Instruction Time : 0

Correct Marks : 5 Wrong Marks : 1

Question Key Details :

Key	Value
Comprehension	Comp2

एक बाह्यता को लागत या लाभ के रूप में परिभाषित किया जा सकता है, जो उस पार्टी को प्रभावित करता है जिसने उस लागत या लाभ को लेने का विकल्प नहीं चुना। खरीददार या विक्रेता के बीच लेन-देन के समय कोई तीसरा पक्ष सकारात्मक या नकारात्मक प्रभाव दिखाते हुए आकर्षक रूप में शामिल हो सकता है। यदि बाहरी लागत विद्यमान है, उत्पादक को सभी संबंधित बाहरी लागतों का भुगतान करने की आवश्यकता है तो उत्पादक, उत्पादन की तुलना में अधिक उत्पाद का उत्पादन करने का विकल्प चुन सकता है। बाहरी लाभों के लिए, उत्पादक यदि उत्पादक दूसरो को बाह्य लाभ करने के लिए राशि प्राप्त करता है तो कम वस्तुओं का उत्पादन कर सकता है। इसलिए समग्र लागत और सामाजिक लाभ को इसमें शामिल सभी पक्षों के लाभ और लागत के निवेश, मौद्रिक मूल्य के योग के रूप में परिभाषित किया गया है।

निम्नलिखित में से कौन बाह्यताओं के सम्बन्ध में सत्य नहीं है?

1. लागत लाभ विश्लेषण के समय बाह्यताओं के बारे में विचार किया जा सकता है।
2. बाह्यताएं, परिवर्द्धित सामाजिक उपयोगिता के साथ सामाजिक रूप से वैकल्पिक परिमाणों की ओर ले जाती हैं।
3. बाह्यताएं, बेहतर "प्रदूषक भुगतान" विनियमों का आधार बन सकती हैं।
4. बाह्यताएं, लोगों को बिना किसी अतिरिक्त लागत के बाह्य लाभ का सुख लेने के लिए प्रेरित कर सकती हैं।

Options :

485584148517. 1  
485584148518. 2  
485584148519. 3

**Comp Sci or IP**

<b>Group Number :</b>	6
<b>Group Id :</b>	485584855
<b>Group Maximum Duration :</b>	60
<b>Group Minimum Duration :</b>	60
<b>Show Attended Group? :</b>	No
<b>Edit Attended Group? :</b>	No
<b>Break time :</b>	0
<b>Group Marks :</b>	200
<b>Is this Group for Examiner? :</b>	No
<b>Examiner permission :</b>	Cant View
<b>Show Progress Bar? :</b>	No

**Compulsory**

<b>Section Id :</b>	485584983
<b>Section Number :</b>	1
<b>Section type :</b>	Online
<b>Mandatory or Optional :</b>	Mandatory
<b>Number of Questions :</b>	15
<b>Number of Questions to be attempted :</b>	15
<b>Section Marks :</b>	75
<b>Enable Mark as Answered Mark for Review and Clear Response :</b>	Yes
<b>Maximum Instruction Time :</b>	0
<b>Sub-Section Number :</b>	1
<b>Sub-Section Id :</b>	4855842798
<b>Question Shuffling Allowed :</b>	Yes
<b>Is Section Default? :</b>	null

**Question Number : 251 Question Id : 48558436946 Question Type : MCQ Option Shuffling : No Is Question Mandatory : No Calculator : None Response Time : N.A Think Time : N.A Minimum Instruction Time : 0**

**Correct Marks : 5 Wrong Marks : 1**

**Question Key Details :**

Key	Value
Comprehension	MCQ1

Match List I with List II

LIST I		LIST II	
A.	r	I.	read, write and binary mode
B.	rw	II.	read only mode
C.	++	III.	write only mode
D.	rb+	IV.	read and write mode

Choose the correct answer from the options given below:

1. A-II, B-IV, C-III, D-I
2. A-II, B-III, C-I, D-IV
3. A-II, B-III, C-IV, D-I
4. A-I, B-II, C-III, D-IV

**Options :**

485584147781. 1  
 485584147782. 2  
 485584147783. 3  
 485584147784. 4

Question Number : 251 Question Id : 48558436946 Question Type : MCQ Option Shuffling : No Is Question Mandatory : No Calculator : None Response Time : N.A Think Time : N.A Minimum Instruction Time : 0

Correct Marks : 5 Wrong Marks : 1

Question Key Details :

Key	Value
Comprehension	MCQ1

सूची I का सूची II से मिलान कीजिए

सूची I	सूची II
A. $\int$	I. रीड, राइट और बाइनरी मोड
B. $\text{w}$	II. केवल रीड मोड
C. $\text{+}$	III. केवल राइट मोड
D. $\text{wb+}$	IV. रीड और राइट मोड

निम्नलिखित विकल्पों में से सही उत्तर का चयन कीजिए :

1. A-II, B-IV, C-III, D-I
2. A-II, B-III, C-I, D-IV
3. A-II, B-III, C-IV, D-I
4. A-I, B-II, C-III, D-IV

Options :

485584147781. 1  
485584147782. 2  
485584147783. 3  
485584147784. 4

Question Number : 252 Question Id : 48558436947 Question Type : MCQ Option Shuffling : No Is Question Mandatory : No Calculator : None Response Time : N.A Think Time : N.A Minimum Instruction Time : 0

Correct Marks : 5 Wrong Marks : 1

Question Key Details :

Key	Value
Comprehension	MCQ1

Read data from the binary file and display on screen:

- A. `f = open ("myfile.dat", "rb")`
- B. `f.close()`
- C. `data = pickle.load(f)`
- D. `print(data)`
- E. `import pickle`

Choose the correct answer from the options given below:

1. E, D, A, C, B
2. E, A, C, D, B
3. E, A, D, C, B
4. E, C, A, D, B

Options :

485584147785. 1  
485584147786. 2  
485584147787. 3  
485584147788. 4

Question Number : 252 Question Id : 48558436947 Question Type : MCQ Option Shuffling : No Is Question Mandatory : No Calculator : None Response Time : N.A Think Time : N.A Minimum Instruction Time : 0

Correct Marks : 5 Wrong Marks : 1

Question Key Details :

Key	Value
Comprehension	MCQ1

बाइनरी फाइल से डाटा पढ़े और स्क्रीन पर प्रदर्शित करें:

- A. f = open ("myfile.dat","rb")
- B. f.close( )
- C. data = pickle.load(f)
- D. print(data)
- E. import pickle

नीचे दिए गए विकल्पों में से सही उत्तर का चयन कीजिए:

- 1. E, D, A, C, B
- 2. E, A, C, D, B
- 3. E, A, D, C, B
- 4. E, C, A, D, B

Options :

- 485584147785. 1
- 485584147786. 2
- 485584147787. 3
- 485584147788. 4

Question Number : 253 Question Id : 48558436948 Question Type : MCQ Option Shuffling : No Is Question Mandatory : No Calculator : None Response Time : N.A Think Time : N.A Minimum Instruction Time : 0

Correct Marks : 5 Wrong Marks : 1

Question Key Details :

Key	Value
Comprehension	MCQ1

Match List I with List II

LIST I		LIST II	
A.	dump	I.	Unpickling
B.	read	II.	File pickling
C.	seek	III.	To read specified number of bytes of data from file
D.	load	IV.	Returns the particular position of the file object in a file

Choose the correct answer from the options given below:

- 1. A-II, B-IV, C-III, D-I
- 2. A-III, B-II, C-IV, D-I
- 3. A-II, B-III, C-IV, D-I
- 4. A-I, B-II, C-III, D-IV

Options :

- 485584147789. 1
- 485584147790. 2
- 485584147791. 3
- 485584147792. 4

Question Number : 253 Question Id : 48558436948 Question Type : MCQ Option Shuffling : No Is Question Mandatory : No Calculator : None Response Time : N.A Think Time : N.A Minimum Instruction Time : 0

Correct Marks : 5 Wrong Marks : 1

**Question Key Details :**

Key	Value
Comprehension	MCQ1

सूची I का सूची II से मिलान कीजिए

सूची I	सूची II
A. clamp	I. अनपिकलिंग
B. read	II. फाइल पिकलिंग
C. seek	III. फाइल से डेटा के बाइट्स की निर्दिष्ट संख्या को पढ़ने के लिए
D. load	IV. किसी फ़ाइल में फ़ाइल ऑब्जेक्ट की विशेष स्थिति देता है

निम्नलिखित विकल्पों में से सही उत्तर का चयन कीजिए :

1. A-II, B-IV, C-III, D-I
2. A-III, B-II, C-IV, D-I
3. A-II, B-III, C-IV, D-I
4. A-I, B-II, C-III, D-IV

**Options :**

485584147789. 1  
485584147790. 2  
485584147791. 3  
485584147792. 4

Question Number : 254 Question Id : 48558436949 Question Type : MCQ Option Shuffling : No Is Question Mandatory : No Calculator : None  
Response Time : N.A Think Time : N.A Minimum Instruction Time : 0

Correct Marks : 5 Wrong Marks : 1

**Question Key Details :**

Key	Value
Comprehension	MCQ1

Which of the following is not type of built-in exception in Python?

1. TypeError
2. IndexError
3. UnderFlowError
4. NameError

**Options :**

485584147793. 1  
485584147794. 2  
485584147795. 3  
485584147796. 4

Question Number : 254 Question Id : 48558436949 Question Type : MCQ Option Shuffling : No Is Question Mandatory : No Calculator : None  
Response Time : N.A Think Time : N.A Minimum Instruction Time : 0

Correct Marks : 5 Wrong Marks : 1

**Question Key Details :**

Key	Value
Comprehension	MCQ1



निम्नलिखित में से कौन-सा पायथन में अंतर्निर्मित अपवाद का प्रकार नहीं है?

1. TypeError
2. IndexError
3. UnderFlowError
4. NameError

**Options :**

485584147793. 1  
485584147794. 2  
485584147795. 3  
485584147796. 4

**Question Number : 255 Question Id : 48558436950 Question Type : MCQ Option Shuffling : No Is Question Mandatory : No Calculator : None Response Time : N.A Think Time : N.A Minimum Instruction Time : 0**

**Correct Marks : 5 Wrong Marks : 1**

**Question Key Details :**

Key	Value
Comprehension	MCQ1

In relational data model, 'cardinality' is defined as-

1. The number of attributes in a relation
2. Set of values from which an attribute can take a value in each row
3. Characteristic or parameter for which data are to be stored in a relation
4. The number of tuples in a relation

**Options :**

485584147797. 1  
485584147798. 2  
485584147799. 3  
485584147800. 4

**Question Number : 255 Question Id : 48558436950 Question Type : MCQ Option Shuffling : No Is Question Mandatory : No Calculator : None Response Time : N.A Think Time : N.A Minimum Instruction Time : 0**

**Correct Marks : 5 Wrong Marks : 1**

**Question Key Details :**

Key	Value
Comprehension	MCQ1

रिलेशनल डेटा मॉडल में, 'कार्डिनैलिटी' को परिभाषित किया जाता है .

1. एक रिलेशन में एट्रिब्यूट की संख्या
2. मानों (मूल्यों) का सेट जिससे प्रत्येक पंक्ति में एक एट्रिब्यूट एक मान ले सकता है
3. विशेषता या पैरामीटर जिसके लिए डेटा को रिलेशन में संग्रहीत किया जाता है
4. एक रिलेशन में टपल्स की संख्या

**Options :**

485584147797. 1  
485584147798. 2  
485584147799. 3  
485584147800. 4

Question Number : 256 Question Id : 48558436951 Question Type : MCQ Option Shuffling : No Is Question Mandatory : No Calculator : None Response Time : N.A Think Time : N.A Minimum Instruction Time : 0

Correct Marks : 5 Wrong Marks : 1

Question Key Details :

Key	Value
Comprehension	MCQ1

Which one of the following is not an example of open source / commercial DBMS?

1. Oracle
2. Microsoft Access
3. MongoDB
4. Microsoft Excel

Options :

- 485584147801. 1
- 485584147802. 2
- 485584147803. 3
- 485584147804. 4

Question Number : 256 Question Id : 48558436951 Question Type : MCQ Option Shuffling : No Is Question Mandatory : No Calculator : None Response Time : N.A Think Time : N.A Minimum Instruction Time : 0

Correct Marks : 5 Wrong Marks : 1

Question Key Details :

Key	Value
Comprehension	MCQ1

निम्नलिखित में से कौन-सा ओपन सोर्स/ वाणिज्यिक DBMS का उदाहरण नहीं है?

1. ओरेकल
2. माइक्रोसॉफ्ट एक्सेस
3. मॉगो डीबी
4. माइक्रोसॉफ्ट एक्सेल

Options :

- 485584147801. 1
- 485584147802. 2
- 485584147803. 3
- 485584147804. 4

Question Number : 257 Question Id : 48558436952 Question Type : MCQ Option Shuffling : No Is Question Mandatory : No Calculator : None Response Time : N.A Think Time : N.A Minimum Instruction Time : 0

Correct Marks : 5 Wrong Marks : 1

Question Key Details :

Key	Value
Comprehension	MCQ1

There are five sentences, each describes a particular terminology in relational data model are listed below:

Choose an option that correctly sequences the definitions of each.

- A. Characteristic or parameter for which data are to be stored in a relation.
- B. Each row of data in a relation.
- C. Set of values from which an attribute can take value in each row.
- D. The number of attributes in a relation.
- E. The number of tuples in a relation.

1. Tuple, Attribute, Domain, Cardinality, Degree
2. Attribute, Tuple, Domain, Cardinality, Degree
3. Tuple, Attribute, Degree, Domain, Cardinality
4. Attribute, Tuple, Domain, Degree, Cardinality

**Options :**

- 485584147805. 1
- 485584147806. 2
- 485584147807. 3
- 485584147808. 4

**Question Number : 257 Question Id : 48558436952 Question Type : MCQ Option Shuffling : No Is Question Mandatory : No Calculator : None Response Time : N.A Think Time : N.A Minimum Instruction Time : 0**

**Correct Marks : 5 Wrong Marks : 1**

**Question Key Details :**

Key	Value
Comprehension	MCQ1

यहाँ पाँच वाक्य दिये हैं . प्रत्येक रिलेशनल डेटा मॉडल में एक विशेष शब्दावली का वर्णन नीचे सूचीबद्ध है:

एक विकल्प चुनें जो प्रत्येक की परिभाषाओं को सही ढंग से क्रम में रखता हो।

- A. विशेषता या पैरामीटर जिसके संबंध में डेटा संग्रहीत किया जाता है।
- B. डेटा की प्रत्येक पंक्ति के संबंध में।
- C. मानों का सेट जिससे प्रत्येक पंक्ति में एक एट्रीब्यूट एक मान ले सकता है।
- D. एट्रीब्यूट की संख्या के संबंध में।
- E. टपल्स की संख्या के संबंध में।

1. टपल्स, एट्रीब्यूट, डोमेन, कार्डिनेलिटी, डिग्री
2. एट्रीब्यूट, टपल्स, डोमेन, कार्डिनेलिटी, डिग्री
3. टपल्स, एट्रीब्यूट, डिग्री, डोमेन, कार्डिनेलिटी
4. एट्रीब्यूट, टपल्स, डोमेन, डिग्री, कार्डिनेलिटी

**Options :**

- 485584147805. 1
- 485584147806. 2
- 485584147807. 3
- 485584147808. 4

**Question Number : 258 Question Id : 48558436953 Question Type : MCQ Option Shuffling : No Is Question Mandatory : No Calculator : None Response Time : N.A Think Time : N.A Minimum Instruction Time : 0**

**Correct Marks : 5 Wrong Marks : 1**

**Question Key Details :**

Key	Value
Comprehension	MCQ1

The distinguishable parts of a record in relational data model is known as

1. Database
2. Fields
3. Database schema
4. Data

**Options :**

- 485584147809. 1
- 485584147810. 2
- 485584147811. 3
- 485584147812. 4

**Question Number : 258 Question Id : 48558436953 Question Type : MCQ Option Shuffling : No Is Question Mandatory : No Calculator : None Response Time : N.A Think Time : N.A Minimum Instruction Time : 0**

**Correct Marks : 5 Wrong Marks : 1**

**Question Key Details :**

Key	Value
Comprehension	MCQ1

रिलेशनल डेटा मॉडल में एक रिकॉर्ड के अलग-अलग हिस्सों को जाना जाता है -

1. डेटाबेस
2. फ़ील्ड
3. डेटाबेस स्कीमा
4. डेटा

**Options :**

- 485584147809. 1
- 485584147810. 2
- 485584147811. 3
- 485584147812. 4

**Question Number : 259 Question Id : 48558436954 Question Type : MCQ Option Shuffling : No Is Question Mandatory : No Calculator : None Response Time : N.A Think Time : N.A Minimum Instruction Time : 0**

**Correct Marks : 5 Wrong Marks : 1**

**Question Key Details :**

Key	Value
Comprehension	MCQ1

Match List I with List II

LIST I		LIST II	
A.	Command to add or remove an attribute in SQL table	I.	Insert
B.	Command to view the structure of a table in SQL	II.	Drop
C.	Statement to remove a database or table permanently	III.	Desc
D.	Command to add new tuples in a table in SQL	IV.	Alter table

Choose the correct answer from the options given below:

1. A-I, B-III, C-IV, D-II
2. A-IV, B-II, C-III, D-I
3. A-IV, B-III, C-II, D-I
4. A-I, B-II, C-III, D-IV

Options :

485584147813. 1  
 485584147814. 2  
 485584147815. 3  
 485584147816. 4

Question Number : 259 Question Id : 48558436954 Question Type : MCQ Option Shuffling : No Is Question Mandatory : No Calculator : None Response Time : N.A Think Time : N.A Minimum Instruction Time : 0

Correct Marks : 5 Wrong Marks : 1

Question Key Details :

Key	Value
Comprehension	MCQ1

सूची I का सूची II से मिलान कीजिए

सूची I		सूची II	
A.	SQL टेबल में एट्रिब्यूट जोड़ने व हटाने का कमांड	I.	Insert
B.	SQL में टेबल की संरचना देखने के लिए कमांड	II.	Drop
C.	किसी डेटाबेस या टेबल को स्थायी रूप से हटाने के लिए	III.	Desc
D.	SQL टेबल में नए टपल्स को जोड़ने के लिए कमांड	IV.	Alter table

निम्नलिखित विकल्पों में से सही उत्तर का चयन कीजिए :

1. A-I, B-III, C-IV, D-II
2. A-IV, B-II, C-III, D-I
3. A-IV, B-III, C-II, D-I
4. A-I, B-II, C-III, D-IV

Options :

485584147813. 1  
 485584147814. 2  
 485584147815. 3  
 485584147816. 4

Question Number : 260 Question Id : 48558436955 Question Type : MCQ Option Shuffling : No Is Question Mandatory : No Calculator : None Response Time : N.A Think Time : N.A Minimum Instruction Time : 0

Correct Marks : 5 Wrong Marks : 1

Question Key Details :

Key	Value
-----	-------

Which of the following are wildcard characters of SQL for pattern matching?

- A. % (percent)
- B. \* (Asterisk)
- C. \_ (underscore)
- D. - (hyphen)

Choose the correct answer from the options given below:

- 1. A and C only
- 2. B and D only
- 3. A and D only
- 4. C and D only

**Options :**

- 485584147817. 1
- 485584147818. 2
- 485584147819. 3
- 485584147820. 4

**Question Number : 260 Question Id : 48558436955 Question Type : MCQ Option Shuffling : No Is Question Mandatory : No Calculator : None Response Time : N.A Think Time : N.A Minimum Instruction Time : 0**

**Correct Marks : 5 Wrong Marks : 1**

**Question Key Details :**

Key	Value
Comprehension	MCQ1

निम्नलिखित में से कौन सा पैटर्न मिलान के लिए SQL के वाइल्डकार्ड कैरेक्टर है?

- A. % (percent)
- B. \* (Asterisk)
- C. \_ (underscore)
- D. - (hyphen)

नीचे दिए गए विकल्पों में से सही उत्तर का चयन कीजिए:

- 1. केवल A और C
- 2. केवल B और D
- 3. केवल A और D
- 4. केवल C और D

**Options :**

- 485584147817. 1
- 485584147818. 2
- 485584147819. 3
- 485584147820. 4

**Question Number : 261 Question Id : 48558436956 Question Type : MCQ Option Shuffling : No Is Question Mandatory : No Calculator : None Response Time : N.A Think Time : N.A Minimum Instruction Time : 0**

**Correct Marks : 5 Wrong Marks : 1**

**Question Key Details :**

Key	Value
Comprehension	MCQ1

In SQL where clause is used for

- A. Adding a column to a table
- B. Adding a row to a table
- C. Limiting the tuples being returned
- D. Limiting the row data being returned
- E. Limiting the column data being returned

Choose the correct answer from the options given below:

- 1. A and E only
- 2. C and D only
- 3. A and B only
- 4. C, D and E only

**Options :**

- 485584147821. 1
- 485584147822. 2
- 485584147823. 3
- 485584147824. 4

**Question Number : 261 Question Id : 48558436956 Question Type : MCQ Option Shuffling : No Is Question Mandatory : No Calculator : None Response Time : N.A Think Time : N.A Minimum Instruction Time : 0**

**Correct Marks : 5 Wrong Marks : 1**

**Question Key Details :**

Key	Value
Comprehension	MCQ1

SQL में जहाँ क्लॉज़ (clause) का प्रयोग किया जाता है:

- A. टेबल में एक कॉलम जोड़ना
- B. टेबल में एक रो (पंक्ति) जोड़ना
- C. लौटाए जा रहे टपल्स डेटा को सीमित करना
- D. लौटाए जा रहे रो (पंक्ति) डेटा को सीमित करना
- E. लौटाए जा रहे कॉलम डेटा को सीमित करना।

नीचे दिए गए विकल्पों में से सही उत्तर का चयन कीजिए:

- 1. केवल A और E
- 2. केवल C और D
- 3. केवल A और B
- 4. केवल C, D और E

**Options :**

- 485584147821. 1
- 485584147822. 2
- 485584147823. 3
- 485584147824. 4

**Question Number : 262 Question Id : 48558436957 Question Type : MCQ Option Shuffling : No Is Question Mandatory : No Calculator : None Response Time : N.A Think Time : N.A Minimum Instruction Time : 0**

**Correct Marks : 5 Wrong Marks : 1**

**Question Key Details :**

Key	Value
Comprehension	MCQ1

Match List I with List II

LIST I		LIST II	
A.	Returns Remainder	I.	Now()
B.	Returns Current System Date and Time	II.	Mod()
C.	Returns date part from the given date.	III.	Date()
D.	Returns string in lower case.	IV.	Lower()

Choose the correct answer from the options given below:

1. A-I, B-III, C-II, D-IV
2. A-II, B-I, C-III, D-IV
3. A-II, B-IV, C-I, D-III
4. A-II, B-IV, C-III, D-I

Options :

485584147825. 1  
485584147826. 2  
485584147827. 3  
485584147828. 4

Question Number : 262 Question Id : 48558436957 Question Type : MCQ Option Shuffling : No Is Question Mandatory : No Calculator : None Response Time : N.A Think Time : N.A Minimum Instruction Time : 0

Correct Marks : 5 Wrong Marks : 1

Question Key Details :

Key	Value
Comprehension	MCQ1

सूची I का सूची II से मिलान कीजिए

सूची I		सूची II	
A.	शेषफल देता है।	I.	Now()
B.	वर्तमान सिस्टम दिनांक और समय देता है।	II.	Mod()
C.	दिए गए दिनांक से दिनांक भाग देता है।	III.	Date()
D.	तीअर केस में स्ट्रिंग देता है।	IV.	Lower()

निम्नलिखित विकल्पों में से सही उत्तर का चयन कीजिए :

1. A-I, B-III, C-II, D-IV
2. A-II, B-I, C-III, D-IV
3. A-II, B-IV, C-I, D-III
4. A-II, B-IV, C-III, D-I

Options :

485584147825. 1  
485584147826. 2  
485584147827. 3  
485584147828. 4

Question Number : 263 Question Id : 48558436958 Question Type : MCQ Option Shuffling : No Is Question Mandatory : No Calculator : None Response Time : N.A Think Time : N.A Minimum Instruction Time : 0

Correct Marks : 5 Wrong Marks : 1

Question Key Details :

Key	Value
Comprehension	MCQ1



Which address is physical address of the machine?

1. IP
2. IPV4
3. URL
4. MAC

**Options :**

485584147829. 1  
485584147830. 2  
485584147831. 3  
485584147832. 4

**Question Number : 263 Question Id : 48558436958 Question Type : MCQ Option Shuffling : No Is Question Mandatory : No Calculator : None Response Time : N.A Think Time : N.A Minimum Instruction Time : 0**

**Correct Marks : 5 Wrong Marks : 1**

**Question Key Details :**

Key	Value
Comprehension	MCQ1

मशीन का भौतिक पता कौन-सा पता होता है?

1. IP
2. IPV4
3. URL
4. MAC

**Options :**

485584147829. 1  
485584147830. 2  
485584147831. 3  
485584147832. 4

**Question Number : 264 Question Id : 48558436959 Question Type : MCQ Option Shuffling : No Is Question Mandatory : No Calculator : None Response Time : N.A Think Time : N.A Minimum Instruction Time : 0**

**Correct Marks : 5 Wrong Marks : 1**

**Question Key Details :**

Key	Value
Comprehension	MCQ1

Arrange the following computer networks in the ascending order of geographical area covered.

- A. MAN
- B. LAN
- C. PAN
- D. WAN

Choose the correct answer from the options given below:

1. C B A D
2. A B C D
3. D A B C
4. A C B D

**Options :**

485584147833. 1  
485584147834. 2  
485584147835. 3  
485584147836. 4

Question Number : 264 Question Id : 48558436959 Question Type : MCQ Option Shuffling : No Is Question Mandatory : No Calculator : None  
Response Time : N.A Think Time : N.A Minimum Instruction Time : 0

Correct Marks : 5 Wrong Marks : 1

Question Key Details :

Key	Value
Comprehension	MCQ1

निम्नलिखित कंप्यूटर नेटवर्क को अंतर्निहित भौगोलिक क्षेत्र के आधार पर आरोही क्रम में व्यवस्था करें।

- A. MAN
- B. LAN
- C. PAN
- D. WAN

नीचे दिए गए विकल्पों में से सही उत्तर का चयन कीजिए:

- 1. C B A D
- 2. A B C D
- 3. D A B C
- 4. A C B D

Options :

485584147833. 1  
485584147834. 2  
485584147835. 3  
485584147836. 4

Question Number : 265 Question Id : 48558436960 Question Type : MCQ Option Shuffling : No Is Question Mandatory : No Calculator : None  
Response Time : N.A Think Time : N.A Minimum Instruction Time : 0

Correct Marks : 5 Wrong Marks : 1

Question Key Details :

Key	Value
Comprehension	MCQ1

What will be the sequence of steps to host a website?

- A. Identify the Domain Name
- B. Select the web hosting service provider
- C. Upload the files in properly organised folders
- D. Create login with appropriate right and note down IP address
- E. Get domain name mapped to the IP address of the web server

Choose the correct answer from the options given below:

- 1. B, A, D, C, E
- 2. B, A, C, D, E
- 3. A, B, C, D, E
- 4. B, A, D, E, C

Options :

485584147837. 1  
485584147838. 2  
485584147839. 3

Question Number : 265 Question Id : 48558436960 Question Type : MCQ Option Shuffling : No Is Question Mandatory : No Calculator : None  
 Response Time : N.A Think Time : N.A Minimum Instruction Time : 0  
 Correct Marks : 5 Wrong Marks : 1

Question Key Details :

Key	Value
Comprehension	MCQ1

वेबसाइट को होस्ट करने के लिए स्टेप (चरणों) का क्रम क्या होगा?

- डोमेन नेम की पहचान करें
- वेब होस्टिंग सेवा (सर्विस) प्रदाता का चयन करें
- फ़ाइलों को ठीक से व्यवस्थित फोल्डरों में अपलोड करें
- उचित अधिकार के साथ लॉगिन बनाएं और IP एड्रेस को नोट कर लें
- वेबसाइट के IP एड्रेस पर डोमेन नेम मैप करें

नीचे दिए गए विकल्पों में से सही उत्तर का चयन कीजिए:

- B, A, D, C, E
- B, A, C, D, E
- A, B, C, D, E
- B, A, D, E, C

Options :

485584147837. 1  
 485584147838. 2  
 485584147839. 3  
 485584147840. 4

## Computer Science

Section Id :	485584984
Section Number :	2
Section type :	Online
Mandatory or Optional :	Optional
Number of Questions :	35
Number of Questions to be attempted :	25
Section Marks :	125
Enable Mark as Answered Mark for Review and Clear Response :	Yes
Maximum Instruction Time :	0
Sub-Section Number :	1
Sub-Section Id :	4855842799
Question Shuffling Allowed :	Yes
Is Section Default? :	null

Question Number : 266 Question Id : 48558436961 Question Type : MCQ Option Shuffling : No Is Question Mandatory : No Calculator : None  
 Response Time : N.A Think Time : N.A Minimum Instruction Time : 0  
 Correct Marks : 5 Wrong Marks : 1

Question Key Details :

Key	Value
Comprehension	MCQ2

Which statement is incorrect about stack?

1. When a stack is implemented using an array, is full and no new element can be accommodated, is called underflow.
2. An insertion in a stack is called pushing and a deletion from a stack is called popping.
3. Stack follows LIFO manner
4. Stack is used in postfix evaluation.

Options :

- 485584147841. 1
- 485584147842. 2
- 485584147843. 3
- 485584147844. 4

Question Number : 266 Question Id : 48558436961 Question Type : MCQ Option Shuffling : No Is Question Mandatory : No Calculator : None Response Time : N.A Think Time : N.A Minimum Instruction Time : 0

Correct Marks : 5 Wrong Marks : 1

Question Key Details :

Key	Value
Comprehension	MCQ2

स्टैक के बारे में कौन-सा कथन असत्य है?

1. जब एक स्टैक पर एरि का उपयोग करके कार्यान्वित किया जाता है, भरा हुआ है और कोई नया एलिमेंट समाप्ति नहीं किया जा सकता है, इसे अंडरफ्लो कहा जाता है।
2. स्टैक में सम्मिलन(इंसर्शन) को पुशिंग कहा जाता है और स्टैक से हटाने को पॉपिंग कहा जाता है।
3. स्टैक LIFO तरीके का अनुसरण करता है।
4. स्टैक का उपयोग पोस्टफिक्स मूल्यांकन में किया जाता है।

Options :

- 485584147841. 1
- 485584147842. 2
- 485584147843. 3
- 485584147844. 4

Question Number : 267 Question Id : 48558436962 Question Type : MCQ Option Shuffling : No Is Question Mandatory : No Calculator : None Response Time : N.A Think Time : N.A Minimum Instruction Time : 0

Correct Marks : 5 Wrong Marks : 1

Question Key Details :

Key	Value
Comprehension	MCQ2

Which one is the correct output after evaluating postfix expression  $8\ 6\ 3\ * 9\ /\ +$  using stack data structure?

1. 8
2. 6
3. 10
4. 18

Options :

- 485584147845. 1
- 485584147846. 2
- 485584147847. 3

485584147848. 4

Question Number : 267 Question Id : 48558436962 Question Type : MCQ Option Shuffling : No Is Question Mandatory : No Calculator : None  
Response Time : N.A Think Time : N.A Minimum Instruction Time : 0

Correct Marks : 5 Wrong Marks : 1

Question Key Details :

Key	Value
Comprehension	MCQ2

स्टैक डेटा स्ट्रक्चर का उपयोग करके पोस्टफिक्स एक्सप्रेशन  $8\ 6\ 3\ *\ 9\ /\ +$  का मूल्यांकन करने के बाद कौन सा सही आउटपुट है?

1. 8

2. 6

3. 10

4. 18

Options :

485584147845. 1

485584147846. 2

485584147847. 3

485584147848. 4

Question Number : 268 Question Id : 48558436963 Question Type : MCQ Option Shuffling : No Is Question Mandatory : No Calculator : None  
Response Time : N.A Think Time : N.A Minimum Instruction Time : 0

Correct Marks : 5 Wrong Marks : 1

Question Key Details :

Key	Value
Comprehension	MCQ2

Which one of the following operation is not performed by stack?

1. Infix to postfix notation

2. Infix to prefix notation

3. Reverse a string

4. Deletion of an element from middle of the stack

Options :

485584147849. 1

485584147850. 2

485584147851. 3

485584147852. 4

Question Number : 268 Question Id : 48558436963 Question Type : MCQ Option Shuffling : No Is Question Mandatory : No Calculator : None  
Response Time : N.A Think Time : N.A Minimum Instruction Time : 0

Correct Marks : 5 Wrong Marks : 1

Question Key Details :

Key	Value
Comprehension	MCQ2

निम्नलिखित में से कौन सा ऑपरेशन स्टैक द्वारा नहीं किया जाता है?

1. इन्फिक्स से पोस्टफिक्स नोटेशन
2. इन्फिक्स से प्रीफिक्स नोटेशन
3. रिवर्स ए स्ट्रिंग
4. स्टैक के मध्य से एलीमेंट को डिलीट करना

**Options :**

485584147849. 1  
485584147850. 2  
485584147851. 3  
485584147852. 4

**Question Number : 269 Question Id : 48558436964 Question Type : MCQ Option Shuffling : No Is Question Mandatory : No Calculator : None Response Time : N.A Think Time : N.A Minimum Instruction Time : 0**

**Correct Marks : 5 Wrong Marks : 1**

**Question Key Details :**

Key	Value
Comprehension	MCQ2

\_\_\_\_\_ is used to insert a new element to the queue at the rear end.

1. Dequeue
2. Enqueue
3. Overflow
4. Queue

**Options :**

485584147853. 1  
485584147854. 2  
485584147855. 3  
485584147856. 4

**Question Number : 269 Question Id : 48558436964 Question Type : MCQ Option Shuffling : No Is Question Mandatory : No Calculator : None Response Time : N.A Think Time : N.A Minimum Instruction Time : 0**

**Correct Marks : 5 Wrong Marks : 1**

**Question Key Details :**

Key	Value
Comprehension	MCQ2

\_\_\_\_\_ अंत के सिरे पर क्यू में एक एलीमेंट डालने के लिए प्रयोग किया जाता है।

1. डीक्यू
2. एनक्यू
3. ओवरफ्लो
4. क्यू

**Options :**

485584147853. 1  
485584147854. 2  
485584147855. 3  
485584147856. 4

Question Number : 270 Question Id : 48558436965 Question Type : MCQ Option Shuffling : No Is Question Mandatory : No Calculator : None  
Response Time : N.A Think Time : N.A Minimum Instruction Time : 0

Correct Marks : 5 Wrong Marks : 1

Question Key Details :

Key	Value
Comprehension	MCQ2

\_\_\_\_\_ is used to remove one element at a time from the front of the queue.

1. Enqueue
2. Dequeue
3. Underflow
4. Overflow

Options :

- 485584147857. 1
- 485584147858. 2
- 485584147859. 3
- 485584147860. 4

Question Number : 270 Question Id : 48558436965 Question Type : MCQ Option Shuffling : No Is Question Mandatory : No Calculator : None  
Response Time : N.A Think Time : N.A Minimum Instruction Time : 0

Correct Marks : 5 Wrong Marks : 1

Question Key Details :

Key	Value
Comprehension	MCQ2

क्यू के सामने (आगे) से एक समय में एक एलिमेंट को हटाने के लिए \_\_\_\_\_ का प्रयोग किया जाता है।

1. एनक्यू
2. डीक्यू
3. अंडरफ्लो
4. ओवरफ्लो

Options :

- 485584147857. 1
- 485584147858. 2
- 485584147859. 3
- 485584147860. 4

Question Number : 271 Question Id : 48558436966 Question Type : MCQ Option Shuffling : No Is Question Mandatory : No Calculator : None  
Response Time : N.A Think Time : N.A Minimum Instruction Time : 0

Correct Marks : 5 Wrong Marks : 1

Question Key Details :

Key	Value
Comprehension	MCQ2

Inserting elements beyond capacity of the queue will result in an exception known as \_\_\_\_\_

1. Overflow
2. Underflow
3. Is-Empty
4. Is-Full

**Options :**

485584147861. 1  
485584147862. 2  
485584147863. 3  
485584147864. 4

**Question Number : 271 Question Id : 48558436966 Question Type : MCQ Option Shuffling : No Is Question Mandatory : No Calculator : None Response Time : N.A Think Time : N.A Minimum Instruction Time : 0**

**Correct Marks : 5 Wrong Marks : 1**

**Question Key Details :**

Key	Value
Comprehension	MCQ2

क्यू की क्षमता से अधिक एलीमेंट को सम्मिलित करने के परिणामस्वरूप एक अपवाद होगा जिसे \_\_\_\_\_ के रूप में जाना जाता है।

1. ओवरफ्लो
2. अंडरफ्लो
3. Is-Empty
4. Is-Full

**Options :**

485584147861. 1  
485584147862. 2  
485584147863. 3  
485584147864. 4

**Question Number : 272 Question Id : 48558436967 Question Type : MCQ Option Shuffling : No Is Question Mandatory : No Calculator : None Response Time : N.A Think Time : N.A Minimum Instruction Time : 0**

**Correct Marks : 5 Wrong Marks : 1**

**Question Key Details :**

Key	Value
Comprehension	MCQ2

In case of hashing, if same position by two different items then it is •

1. clash
2. exception
3. overflow
4. collision

**Options :**

485584147865. 1  
485584147866. 2  
485584147867. 3  
485584147868. 4

**Question Number : 272 Question Id : 48558436967 Question Type : MCQ Option Shuffling : No Is Question Mandatory : No Calculator : None Response Time : N.A Think Time : N.A Minimum Instruction Time : 0**

**Correct Marks : 5 Wrong Marks : 1**

**Question Key Details :**

Key	Value
Comprehension	MCQ2



हैशिंग के केस में, यदि दो अलग-अलग आइटमों द्वारा समान स्थिति है तो यह है -

1. क्लैश
2. एक्सेप्शन
3. ओवरफ्लो
4. कॉलीज़न

**Options :**

485584147865. 1  
485584147866. 2  
485584147867. 3  
485584147868. 4

**Question Number : 273 Question Id : 48558436968 Question Type : MCQ Option Shuffling : No Is Question Mandatory : No Calculator : None Response Time : N.A Think Time : N.A Minimum Instruction Time : 0**

**Correct Marks : 5 Wrong Marks : 1**

**Question Key Details :**

Key	Value
Comprehension	MCQ2

Consider the following hash function:

$$h(\text{item}) = \text{item} \% \text{size}(\text{hashtable})$$

for item = 32 and size (hashtable) = 10

What is the location of the item as computed by hash function?

1. 5
2. 3
3. 2
4. 23

**Options :**

485584147869. 1  
485584147870. 2  
485584147871. 3  
485584147872. 4

**Question Number : 273 Question Id : 48558436968 Question Type : MCQ Option Shuffling : No Is Question Mandatory : No Calculator : None Response Time : N.A Think Time : N.A Minimum Instruction Time : 0**

**Correct Marks : 5 Wrong Marks : 1**

**Question Key Details :**

Key	Value
Comprehension	MCQ2

निम्नलिखित हेश फंक्शन पर विचार करें:

$h(\text{item}) = \text{item} \% \text{size}(\text{hashtable})$

for item = 32 and size (hashtable) = 10

हेश फंक्शन द्वारा गणना किये गये आइटम का स्थान क्या है?

1. 5

2. 3

3. 2

4. 23

**Options :**

485584147869. 1

485584147870. 2

485584147871. 3

485584147872. 4

**Question Number : 274 Question Id : 48558436969 Question Type : MCQ Option Shuffling : No Is Question Mandatory : No Calculator : None Response Time : N.A Think Time : N.A Minimum Instruction Time : 0**

**Correct Marks : 5 Wrong Marks : 1**

**Question Key Details :**

Key	Value
Comprehension	MCQ2

Consider a list of 15 elements:

$L = [2, 3, 9, 7, 6, 76, 45, 18, 23, 29, 31, -37, 41, 43, 38]$

How many numbers of comparisons does linear search make to search for key 18?

1. 9

2. 6

3. 8

4. 7

**Options :**

485584147873. 1

485584147874. 2

485584147875. 3

485584147876. 4

**Question Number : 274 Question Id : 48558436969 Question Type : MCQ Option Shuffling : No Is Question Mandatory : No Calculator : None Response Time : N.A Think Time : N.A Minimum Instruction Time : 0**

**Correct Marks : 5 Wrong Marks : 1**

**Question Key Details :**

Key	Value
Comprehension	MCQ2

15 एलिमेंट की सूची पर विचार करें:

$L = [2, 3, 9, 7, 6, 76, 45, 18, 23, 29, 31, -37, 41, 43, 38]$

की 18 को सर्च करने के लिए लीनियर सर्च कितनी नम्बर में तुलना करता है?

1. 9

2. 6

3. 8

4. 7

**Options :**

485584147873. 1

485584147874. 2

485584147875. 3

485584147876. 4

**Question Number : 275 Question Id : 48558436970 Question Type : MCQ Option Shuffling : No Is Question Mandatory : No Calculator : None Response Time : N.A Think Time : N.A Minimum Instruction Time : 0**

**Correct Marks : 5 Wrong Marks : 1**

**Question Key Details :**

Key	Value
Comprehension	MCQ2

Consider a list having 6 elements as

$numlist = [8, 7, 13, 1, -9, 4]$ .

What will be the partial list after Pass 2 in Bubble sort.

1.  $[1, -9, 4, 7, 8, 13]$

2.  $[7, 8, 1, -9, 4, 13]$

3.  $[7, 1, -9, 4, 8, 13]$

4.  $[-9, 1, 4, 7, 8, 13]$

**Options :**

485584147877. 1

485584147878. 2

485584147879. 3

485584147880. 4

**Question Number : 275 Question Id : 48558436970 Question Type : MCQ Option Shuffling : No Is Question Mandatory : No Calculator : None Response Time : N.A Think Time : N.A Minimum Instruction Time : 0**

**Correct Marks : 5 Wrong Marks : 1**

**Question Key Details :**

Key	Value
Comprehension	MCQ2

6-एलीमेंट की सूची पर विचार करें

numlist = [8, 7, 13, 1, -9, 4].

बदला सॉर्ट में Pass 2 के बाद आंशिक सूची क्या होगी।

1. [1, -9, 4, 7, 8, 13]
2. [7, 8, 1, -9, 4, 13]
3. [7, 1, -9, 4, 8, 13]
4. [-9, 1, 4, 7, 8, 13]

**Options :**

485584147877. 1  
485584147878. 2  
485584147879. 3  
485584147880. 4

**Question Number : 276 Question Id : 48558436971 Question Type : MCQ Option Shuffling : No Is Question Mandatory : No Calculator : None Response Time : N.A Think Time : N.A Minimum Instruction Time : 0**

**Correct Marks : 5 Wrong Marks : 1**

**Question Key Details :**

Key	Value
Comprehension	MCQ2

How many elements does insertion sort have in the unsorted list in pass1?

1. n-1 elements
2. n-2 elements
3. n-3 elements
4. n elements

**Options :**

485584147881. 1  
485584147882. 2  
485584147883. 3  
485584147884. 4

**Question Number : 276 Question Id : 48558436971 Question Type : MCQ Option Shuffling : No Is Question Mandatory : No Calculator : None Response Time : N.A Think Time : N.A Minimum Instruction Time : 0**

**Correct Marks : 5 Wrong Marks : 1**

**Question Key Details :**

Key	Value
Comprehension	MCQ2

इन्सर्शन सॉर्ट में अक्सोर्टेड लिस्ट में pass1 (पास 1) में कितने एलीमेंट है?

1. n-1 एलीमेंट्स
2. n-2 एलीमेंट्स
3. n-3 एलीमेंट्स
4. n एलीमेंट्स

**Options :**

485584147881. 1  
485584147882. 2

485584147883. 3  
485584147884. 4

**Question Number : 277 Question Id : 48558436972 Question Type : MCQ Option Shuffling : No Is Question Mandatory : No Calculator : None  
Response Time : N.A Think Time : N.A Minimum Instruction Time : 0**

**Correct Marks : 5 Wrong Marks : 1**

**Question Key Details :**

Key	Value
Comprehension	MCQ2

The sorted list is traversed from the backward direction to find the position where the unsorted element could be inserted is known as:

1. Selection sort
2. Insertion sort
3. Quick sort
4. Bubble sort

**Options :**

485584147885. 1  
485584147886. 2  
485584147887. 3  
485584147888. 4

**Question Number : 277 Question Id : 48558436972 Question Type : MCQ Option Shuffling : No Is Question Mandatory : No Calculator : None  
Response Time : N.A Think Time : N.A Minimum Instruction Time : 0**

**Correct Marks : 5 Wrong Marks : 1**

**Question Key Details :**

Key	Value
Comprehension	MCQ2

सॉर्ट की गई सूची को पिछली दिशा से ट्रेस किया जाता है ताकि उस स्थिति का पता लगाया जा सके जहां अनसॉर्टेड एलिमेंट डाला जाता है, कहलाता है:

1. सिलेक्शन सॉर्ट
2. इंसर्शन सॉर्ट
3. क्विक सॉर्ट
4. बबल सॉर्ट

**Options :**

485584147885. 1  
485584147886. 2  
485584147887. 3  
485584147888. 4

**Question Number : 278 Question Id : 48558436973 Question Type : MCQ Option Shuffling : No Is Question Mandatory : No Calculator : None  
Response Time : N.A Think Time : N.A Minimum Instruction Time : 0**

**Correct Marks : 5 Wrong Marks : 1**

**Question Key Details :**

Key	Value
Comprehension	MCQ2

The management of a company wants to know about disparity in salaries of all employees. Which of the following statistical method is suitable for the above purpose?

1. Mean
2. Median
3. Range
4. Standard deviation

**Options :**

- 485584147889. 1
- 485584147890. 2
- 485584147891. 3
- 485584147892. 4

**Question Number : 278 Question Id : 48558436973 Question Type : MCQ Option Shuffling : No Is Question Mandatory : No Calculator : None Response Time : N.A Think Time : N.A Minimum Instruction Time : 0**

**Correct Marks : 5 Wrong Marks : 1**

**Question Key Details :**

Key	Value
Comprehension	MCQ2

कंपनी का प्रबंधन सभी कर्मचारियों के वेतन में असमानता के बारे में जानना चाहता है। निम्नलिखित में से कौन सी सांख्यिकी विधि उपरोक्त उद्देश्य के लिए उपयुक्त है?

1. माध्य
2. माध्यिका
3. परास (रेंज)
4. मानक विचलन

**Options :**

- 485584147889. 1
- 485584147890. 2
- 485584147891. 3
- 485584147892. 4

**Question Number : 279 Question Id : 48558436974 Question Type : MCQ Option Shuffling : No Is Question Mandatory : No Calculator : None Response Time : N.A Think Time : N.A Minimum Instruction Time : 0**

**Correct Marks : 5 Wrong Marks : 1**

**Question Key Details :**

Key	Value
Comprehension	MCQ2

Suppose annual day of your school is to be celebrated. The school has decided to felicitate those parents of the students studying in Class XI and XII, who are alumni of same school. How varied the age of parents of the students of that school using which statistical technique?

1. Mean
2. Standard deviation
3. Mode
4. Range

**Options :**

- 485584147893. 1
- 485584147894. 2

485584147895. 3  
485584147896. 4

**Question Number : 279 Question Id : 48558436974 Question Type : MCQ Option Shuffling : No Is Question Mandatory : No Calculator : None Response Time : N.A Think Time : N.A Minimum Instruction Time : 0**

**Correct Marks : 5 Wrong Marks : 1**

**Question Key Details :**

Key	Value
Comprehension	MCQ2

मान लीजिए आपके विद्यालय का वार्षिक दिवस मनाया जाता है। स्कूल ने ग्यारहवीं और बारहवीं कक्षा में पढ़ने वाले उन छात्रों के माता-पिता को सम्मानित करने का फैसला किया है जो उसी स्कूल के पूर्व छात्र हैं। उस विद्यालय के विद्यार्थियों के माता-पिता की आयु में कितनी भिन्नता है, किस सांख्यिकी तकनीक का प्रयोग करेंगे?

1. माध्य
2. मानक विचलन
3. बहुलक
4. परास (रेंज)

**Options :**

485584147893. 1  
485584147894. 2  
485584147895. 3  
485584147896. 4

**Question Number : 280 Question Id : 48558436975 Question Type : MCQ Option Shuffling : No Is Question Mandatory : No Calculator : None Response Time : N.A Think Time : N.A Minimum Instruction Time : 0**

**Correct Marks : 5 Wrong Marks : 1**

**Question Key Details :**

Key	Value
Comprehension	MCQ2

Suppose annual day of your school is to be celebrated. The school has decided to felicitate those parents of the students studying in Class XI and XII, who are the alumni of the same school. Which statistical technique is used to find out the number of students whose both parents are alumni of this school?

1. Median
2. Range
3. Mode
4. Standard Deviation

**Options :**

485584147897. 1  
485584147898. 2  
485584147899. 3  
485584147900. 4

**Question Number : 280 Question Id : 48558436975 Question Type : MCQ Option Shuffling : No Is Question Mandatory : No Calculator : None Response Time : N.A Think Time : N.A Minimum Instruction Time : 0**

**Correct Marks : 5 Wrong Marks : 1**

**Question Key Details :**

Key	Value
Comprehension	MCQ2

मान लीजिए आपके विद्यालय का वार्षिक दिवस मनाया जाता है। स्कूल ने ग्यारहवीं और बारहवीं कक्षा में पढ़ने वाले उन छात्रों के माता-पिता को सम्मानित करने का फैसला किया है, जो उसी स्कूल के पूर्व छात्र हैं। इस स्कूल के पूर्व छात्र जिनके माता-पिता दोनों हैं, उन छात्रों की संख्या का पता लगाने के लिए किस सांख्यिकी तकनीक का प्रयोग करेंगे?

1. माधिका
2. परास (रेंज)
3. बहुलक
4. मानक विचलन

**Options :**

485584147897. 1  
485584147898. 2  
485584147899. 3  
485584147900. 4

**Question Number : 281 Question Id : 48558436976 Question Type : MCQ Option Shuffling : No Is Question Mandatory : No Calculator : None Response Time : N.A Think Time : N.A Minimum Instruction Time : 0**

**Correct Marks : 5 Wrong Marks : 1**

**Question Key Details :**

Key	Value
Comprehension	MCQ2

A \_\_\_\_\_ key can take multiple NULL values.

1. Composite Primary Key
2. Primary Key
3. Candidate Key
4. Foreign Key

**Options :**

485584147901. 1  
485584147902. 2  
485584147903. 3  
485584147904. 4

**Question Number : 281 Question Id : 48558436976 Question Type : MCQ Option Shuffling : No Is Question Mandatory : No Calculator : None Response Time : N.A Think Time : N.A Minimum Instruction Time : 0**

**Correct Marks : 5 Wrong Marks : 1**

**Question Key Details :**

Key	Value
Comprehension	MCQ2

एक \_\_\_\_\_ की कई NULL मान ले सकती है।

1. कम्पोजिट प्राइमरी की
2. प्राइमरी की
3. कैंडिडेट की
4. फ़ोरन की

**Options :**

485584147901. 1  
485584147902. 2  
485584147903. 3



485584147904. 4

Question Number : 282 Question Id : 48558436977 Question Type : MCQ Option Shuffling : No Is Question Mandatory : No Calculator : None  
Response Time : N.A Think Time : N.A Minimum Instruction Time : 0

Correct Marks : 5 Wrong Marks : 1

Question Key Details :

Key	Value
Comprehension	MCQ2

Which two constraints when applied together will produce a primary key constraint?

1. Unique and Default
2. Unique and Check
3. Unique and Not Null
4. Not Null and Default

Options :

485584147905. 1

485584147906. 2

485584147907. 3

485584147908. 4

Question Number : 282 Question Id : 48558436977 Question Type : MCQ Option Shuffling : No Is Question Mandatory : No Calculator : None  
Response Time : N.A Think Time : N.A Minimum Instruction Time : 0

Correct Marks : 5 Wrong Marks : 1

Question Key Details :

Key	Value
Comprehension	MCQ2

कौन से दो अवरोधों (कॉन्स्ट्रेंट्स) को एक साथ लागू करने पर प्राइमरी की बाधा उत्पन्न होगी?

1. यूनिक और डिफॉल्ट
2. यूनिक और चेक
3. यूनिक और नॉट नल
4. नॉटनल और डिफॉल्ट

Options :

485584147905. 1

485584147906. 2

485584147907. 3

485584147908. 4

Question Number : 283 Question Id : 48558436978 Question Type : MCQ Option Shuffling : No Is Question Mandatory : No Calculator : None  
Response Time : N.A Think Time : N.A Minimum Instruction Time : 0

Correct Marks : 5 Wrong Marks : 1

Question Key Details :

Key	Value
Comprehension	MCQ2

Match List I with List II

LIST I		LIST II	
A.	Aggregate function	I.	pow()
B.	Math function	II.	instr()
C.	String function	III.	month()
D.	Date Function	IV.	avg()

Choose the correct answer from the options given below:

1. A-IV, B-III, C-II, D-I
2. A-IV, B-I, C-III, D-II
3. A-IV, B-I, C-II, D-III
4. A-III, B-I, C-II, D-IV

Options :

485584147909. 1  
485584147910. 2  
485584147911. 3  
485584147912. 4

Question Number : 283 Question Id : 48558436978 Question Type : MCQ Option Shuffling : No Is Question Mandatory : No Calculator : None Response Time : N.A Think Time : N.A Minimum Instruction Time : 0

Correct Marks : 5 Wrong Marks : 1

Question Key Details :

Key	Value
Comprehension	MCQ2

सूची I का सूची II से मिलान कीजिए

सूची I		सूची II	
A.	एग्रीगेट फंक्शन	I.	pow()
B.	मैथ फंक्शन	II.	instr()
C.	स्ट्रिंग फंक्शन	III.	month()
D.	डेट फंक्शन	IV.	avg()

निम्नलिखित विकल्पों में से सही उत्तर का चयन कीजिए :

1. A-IV, B-III, C-II, D-I
2. A-IV, B-I, C-III, D-II
3. A-IV, B-I, C-II, D-III
4. A-III, B-I, C-II, D-IV

Options :

485584147909. 1  
485584147910. 2  
485584147911. 3  
485584147912. 4

Question Number : 284 Question Id : 48558436979 Question Type : MCQ Option Shuffling : No Is Question Mandatory : No Calculator : None Response Time : N.A Think Time : N.A Minimum Instruction Time : 0

Correct Marks : 5 Wrong Marks : 1

Question Key Details :

Key	Value
Comprehension	MCQ2

Arrange the following in the correct order to make a proper SQL query to change the price of a Product whose supplier is "Amul".

- A. update Product
- B. where
- C. set price
- D. supplier = "Amul"
- E. = Price + 50

Choose the correct answer from the options given below:

- 1. A, B, C, D, E
- 2. A, C, D, B, E
- 3. A, C, E, B, D
- 4. B, C, A, E, D

**Options :**

- 485584147913. 1
- 485584147914. 2
- 485584147915. 3
- 485584147916. 4

**Question Number : 284 Question Id : 48558436979 Question Type : MCQ Option Shuffling : No Is Question Mandatory : No Calculator : None Response Time : N.A Think Time : N.A Minimum Instruction Time : 0**

**Correct Marks : 5 Wrong Marks : 1**

**Question Key Details :**

Key	Value
Comprehension	MCQ2

एक उत्पाद जिसका आपूर्तिकर्ता "Amul" है, की कीमत बदलने के लिए एक उचित SQL क्वेरी बनाने के लिए निम्नलिखित को सही क्रम में व्यवस्थित करें।

- A. update Product
- B. where
- C. set price
- D. supplier = "Amul"
- E. = Price + 50

नीचे दिए गए विकल्पों में से सही उत्तर का चयन कीजिए:

- 1. A, B, C, D, E
- 2. A, C, D, B, E
- 3. A, C, E, B, D
- 4. B, C, A, E, D

**Options :**

- 485584147913. 1
- 485584147914. 2
- 485584147915. 3
- 485584147916. 4

**Question Number : 285 Question Id : 48558436980 Question Type : MCQ Option Shuffling : No Is Question Mandatory : No Calculator : None Response Time : N.A Think Time : N.A Minimum Instruction Time : 0**

**Correct Marks : 5 Wrong Marks : 1**

**Question Key Details :**

Key	Value
Comprehension	MCQ2

Consider table STUDENT. Choose the correct output of the Query -

RollNO	M1	M2
1	85	75
2	70	NULL
3	NULL	60
4	50	6
5	49	NULL

SELECT COUNT(\*), COUNT(M2) FROM STUDENT;

1. 5,4
2. 4,3
3. 5,3
4. 5,5

Options :

- 485584147917. 1
- 485584147918. 2
- 485584147919. 3
- 485584147920. 4

Question Number : 285 Question Id : 48558436980 Question Type : MCQ Option Shuffling : No Is Question Mandatory : No Calculator : None Response Time : N.A Think Time : N.A Minimum Instruction Time : 0

Correct Marks : 5 Wrong Marks : 1

Question Key Details :

Key	Value
Comprehension	MCQ2

STUDENT टेबल पर विचार करेण केरी का सही आउटपुट चुनें -

RollNO	M1	M2
1	85	75
2	70	NULL
3	NULL	60
4	50	6
5	49	NULL

SELECT COUNT(\*), COUNT(M2) FROM STUDENT;

1. 5,4
2. 4,3
3. 5,3
4. 5,5

Options :

- 485584147917. 1
- 485584147918. 2
- 485584147919. 3
- 485584147920. 4

Sub-Section Number :

2

Sub-Section Id :

4855842800

Question Shuffling Allowed :

No

Is Section Default? :

null

Question Number : 286 Question Id : 48558436981 Question Type : MCQ Option Shuffling : No Is Question Mandatory : No Calculator : None Response Time : N.A Think Time : N.A Minimum Instruction Time : 0

Correct Marks : 5 Wrong Marks : 1

**Question Key Details :**

Key	Value
Comprehension	Comp1

Study the following code for working in a text file "story.txt"

```
def countword(str1):
    f = open ("story.txt", _____) #statement1
    count = 0
    flag = 0
    x = f._____ #statement2
    word = _____ #statement3
    for i in word:
        if i _____ str 1: #statement4
            count = count + 1
            flag=1
        if flag == 0:
            print ("word not found")
```

Identify the correct file mode for statement1 blank:-

1. r
2. rb
3. a
4. w

**Options :**

485584147921. 1  
 485584147922. 2  
 485584147923. 3  
 485584147924. 4

Question Number : 286 Question Id : 48558436981 Question Type : MCQ Option Shuffling : No Is Question Mandatory : No Calculator : None  
 Response Time : N.A Think Time : N.A Minimum Instruction Time : 0

Correct Marks : 5 Wrong Marks : 1

**Question Key Details :**

Key	Value
Comprehension	Comp1

टेक्स्ट फ़ाइल (text file) "story.txt" में काम करने के लिए निम्न कोड का अध्ययन करें -

```
def countword(str1):  
    f = open ("story.txt", _____) #statement1  
    count = 0  
    flag = 0  
    x = f. _____ #statement2  
    word = _____ #statement3  
    for i in word:  
        if i _____ str 1: #statement4  
            count = count + 1  
            flag=1  
    if flag == 0:  
        print ("word not found")
```

कथन 1 रिक्त स्थान के लिए सही कोड की पहचान करें।

1. r
2. rb
3. a
4. w

**Options :**

- 485584147921. 1
- 485584147922. 2
- 485584147923. 3
- 485584147924. 4

Question Number : 287 Question Id : 48558436982 Question Type : MCQ Option Shuffling : No Is Question Mandatory : No Calculator : None  
Response Time : N.A Think Time : N.A Minimum Instruction Time : 0

Correct Marks : 5 Wrong Marks : 1

**Question Key Details :**

Key	Value
Comprehension	Comp1

Study the following code for working in a text file "story.txt"

```
def countword(str1):  
    f = open ("story.txt", _____) #statement1  
    count = 0  
    flag = 0  
    x = f._____ #statement2  
    word = _____ #statement3  
    for i in word:  
        if i _____ str 1: #statement4  
            count = count + 1  
            flag=1  
    if flag == 0:  
        print ("word not found")
```

Identify the correct code in Statement2 blank for reading the entire contents of the file.

1. read(eof)
2. read()
3. readline()
4. Readlines(5)

**Options :**

- 485584147925. 1
- 485584147926. 2
- 485584147927. 3
- 485584147928. 4

**Question Number : 287 Question Id : 48558436982 Question Type : MCQ Option Shuffling : No Is Question Mandatory : No Calculator : None Response Time : N.A Think Time : N.A Minimum Instruction Time : 0**

**Correct Marks : 5 Wrong Marks : 1**

**Question Key Details :**

Key	Value
Comprehension	Comp1

टेक्स्ट फ़ाइल (text file) "story.txt" में काम करने के लिए निम्न कोड का अध्ययन करें -

```
def countword(str1):  
    f = open ("story.txt", _____) #statement1  
    count = 0  
    flag = 0  
    x = f. _____ #statement2  
    word = _____ #statement3  
    for i in word:  
        if i _____ str 1: #statement4  
            count = count + 1  
            flag=1  
    if flag == 0:  
        print ("word not found")
```

फ़ाइल की सम्पूर्ण सामग्री को पढ़ने के लिए कथन2 रिक्त स्थान में सही कोड की पहचान करें।

1. read(cof)
2. read( )
3. readline( )
4. Readlines(5)

**Options :**

485584147925. 1
485584147926. 2
485584147927. 3
485584147928. 4

Question Number : 288 Question Id : 48558436983 Question Type : MCQ Option Shuffling : No Is Question Mandatory : No Calculator : None  
Response Time : N.A Think Time : N.A Minimum Instruction Time : 0

Correct Marks : 5 Wrong Marks : 1

Question Key Details :

Key	Value
Comprehension	Comp1



Study the following code for working in a text file "story.txt"

```
def countword(str1):  
    f = open ("story.txt", _____) #statement1  
    count = 0  
    flag = 0  
    x = f._____ #statement2  
    word = _____ #statement3  
    for i in word:  
        if i _____ str 1: #statement4  
            count = count + 1  
            flag=1  
    if flag == 0:  
        print ("word not found")
```

Statement3 blank contains code to split the entire elements into words

1. split( )
2. f.split( )
3. f.split('r')
4. x.split( )

**Options :**

- 485584147929. 1
- 485584147930. 2
- 485584147931. 3
- 485584147932. 4

**Question Number : 288 Question Id : 48558436983 Question Type : MCQ Option Shuffling : No Is Question Mandatory : No Calculator : None Response Time : N.A Think Time : N.A Minimum Instruction Time : 0**

**Correct Marks : 5 Wrong Marks : 1**

**Question Key Details :**

Key	Value
Comprehension	Comp1

टेक्स्ट फ़ाइल (text file) "story.txt" में काम करने के लिए निम्न कोड का अध्ययन करें -

```
def countword(str1):  
    f = open ("story.txt", _____) #statement1  
    count = 0  
    flag = 0  
    x = f. _____ #statement2  
    word = _____ #statement3  
    for i in word:  
        if i _____ str 1: #statement4  
            count = count + 1  
            flag=1  
    if flag == 0:  
        print ("word not found")
```

कथन: खाली स्थान में सभी एलिमेंट को शब्दों में विभाजित करने के लिए कोड होता है -

1. split()
2. f.split()
3. f.split('')
4. x.split()

**Options :**

- 485584147929. 1
- 485584147930. 2
- 485584147931. 3
- 485584147932. 4

Question Number : 289 Question Id : 48558436984 Question Type : MCQ Option Shuffling : No Is Question Mandatory : No Calculator : None  
Response Time : N.A Think Time : N.A Minimum Instruction Time : 0

Correct Marks : 5 Wrong Marks : 1

Question Key Details :

Key	Value
Comprehension	Comp1

Study the following code for working in a text file "story.txt"

```
def countword(str1):  
    f = open ("story.txt", _____) #statement1  
    count = 0  
    flag = 0  
    x = f. _____ #statement2  
    word = _____ #statement3  
    for i in word:  
        if i _____ str 1: #statement4  
            count = count + 1  
            flag=1  
    if flag == 0:  
        print ("word not found")
```

Find the correct operator for searching a string into the file for statement4.

1. =
2. ==
3. in
4. is

**Options :**

- 485584147933. 1
- 485584147934. 2
- 485584147935. 3
- 485584147936. 4

Question Number : 289 Question Id : 48558436984 Question Type : MCQ Option Shuffling : No Is Question Mandatory : No Calculator : None  
Response Time : N.A Think Time : N.A Minimum Instruction Time : 0

Correct Marks : 5 Wrong Marks : 1

**Question Key Details :**

Key	Value
Comprehension	Comp1

टेक्स्ट फ़ाइल (text file) "story.txt" में काम करने के लिए निम्न कोड का अध्ययन करें -

```
def countword(str1):  
    f = open ("story.txt", _____) #statement1  
    count = 0  
    flag = 0  
    x = f. _____ #statement2  
    word = _____ #statement3  
    for i in word:  
        if i _____ str 1: #statement4  
            count = count + 1  
            flag=1  
    if flag == 0:  
        print ("word not found")
```

कथन4 के लिए फ़ाइल में स्ट्रिंग खोजने के लिए सही ऑपरेटर चुनें -

1. -
2. --
3. in
4. is

**Options :**

- 485584147933. 1
- 485584147934. 2
- 485584147935. 3
- 485584147936. 4

Question Number : 290 Question Id : 48558436985 Question Type : MCQ Option Shuffling : No Is Question Mandatory : No Calculator : None  
Response Time : N.A Think Time : N.A Minimum Instruction Time : 0

Correct Marks : 5 Wrong Marks : 1

Question Key Details :

Key	Value
Comprehension	Comp1

Study the following code for working in a text file "story.txt"

```
def countword(str1):  
    f = open ("story.txt", _____) #statement1  
    count = 0  
    flag = 0  
    x = f. _____ #statement2  
    word = _____ #statement3  
    for i in word:  
        if i _____ str 1: #statement4  
            count = count + 1  
            flag=1  
    if flag == 0:  
        print ("word not found")
```

Which code to call the function countword with the value as "and"

1. str=input("enter string")  
countword("str")
2. str = input("enter string")  
countword(str)
3. str = 'and'  
countword("str")
4. str = "and"  
countword(str)

**Options :**

- 485584147937. 1
- 485584147938. 2
- 485584147939. 3
- 485584147940. 4

Question Number : 290 Question Id : 48558436985 Question Type : MCQ Option Shuffling : No Is Question Mandatory : No Calculator : None  
Response Time : N.A Think Time : N.A Minimum Instruction Time : 0

Correct Marks : 5 Wrong Marks : 1

**Question Key Details :**

Key	Value
Comprehension	Comp1

टेक्स्ट फ़ाइल (text file) "story.txt" में काम करने के लिए निम्न कोड का अध्ययन करें -

```
def countword(str1):  
    f = open ("story.txt", _____) #statement1  
    count = 0  
    flag = 0  
    x = f. _____ #statement2  
    word = _____ #statement3  
    for i in word:  
        if i _____ str 1: #statement4  
            count = count + 1  
            flag=1  
    if flag == 0:  
        print ("word not found")
```

कौन सा कोड फंक्शन countword को "and" मान के साथ कॉल करता है -

1. str=input("enter string")  
 countword("str")
2. str = input("enter string")  
 countword(str)
3. str = "and"  
 countword("str")
4. str = "and"  
 countword(str)

**Options :**

- 485584147937. 1
- 485584147938. 2
- 485584147939. 3
- 485584147940. 4

Sub-Section Number : 3  
Sub-Section Id : 4855842801  
Question Shuffling Allowed : No  
Is Section Default? : null

Question Number : 291 Question Id : 48558436986 Question Type : MCQ Option Shuffling : No Is Question Mandatory : No Calculator : None  
Response Time : N.A Think Time : N.A Minimum Instruction Time : 0

Correct Marks : 5 Wrong Marks : 1

**Question Key Details :**

Key	Value
Comprehension	Comp2

The internet is the global network of computing devices. Computers are either connected to a modem through a cable or wirelessly (Wi-Fi).

Each one of us might have visited one or the other website. The first page of the website is called home page. It generally contains information or links to all the related pages. Each webpage has a unique address that is visible on the address bar. The web pages that are linked to form a website share a unique domain name. For example, <https://swayam.gov.in/> is a website by the Government of India. A web page can be static or dynamic. A web server is used to store and deliver contents of a website to clients. Web hosting is a service that allows us to put a website or a web page into the internet and make it a part of world wide web.

Static web pages are generally written in:

- A. HTML
- B. Java Script
- C. MS-Word
- D. CSS

Choose the correct answer from the options given below:

- 1. B and C only
- 2. A and C only
- 3. A, B and D only
- 4. C and D only

**Options :**

- 485584147941. 1
- 485584147942. 2
- 485584147943. 3
- 485584147944. 4

**Question Number : 291 Question Id : 48558436986 Question Type : MCQ Option Shuffling : No Is Question Mandatory : No Calculator : None Response Time : N.A Think Time : N.A Minimum Instruction Time : 0**

**Correct Marks : 5 Wrong Marks : 1**

**Question Key Details :**

Key	Value
Comprehension	Comp2

इंटरनेट कंप्यूटिंग उपकरणों का ग्लोबल नेटवर्क है। कम्प्यूटर या तो एक केबल के माध्यम से या वायरलेस तरीके से (वाई-फाई) एक मोडेम से जुड़े होते हैं।

हम में से हरेक ने एक या दूसरी वेबसाइट देखी होगी। वेबसाइट के पहले पेज को होम पेज कहा जाता है। इसमें आम तौर पर सभी संबंधित पृष्ठों की जानकारी या लिंक होते हैं। प्रत्येक वेबपेज का एक यूनिक एड्रेस होता है जो एड्रेस बार पर दिखाई देता है। वेबसाइट बनाने के लिए लिंक किए गए वेब पेज एक यूनिक डोमेन नेम साझा करते हैं। उदाहरण के लिए, <https://swayam.gov.in/> भारत सरकार की एक वेबसाइट है। एक वेब पेज स्टैटिक या डायनामिक हो सकता है। एक वेब सर्वर का उपयोग ग्राहकों को वेबसाइट के कन्टेंट्स को स्टोर करने और लिवर करने के लिए किया जाता है। वेब होस्टिंग एक ऐसी सर्विस है जो हमें एक वेबसाइट या वेब पेज को इंटरनेट में डालने और इसे वर्ल्ड वाइड वेब का हिस्सा बनाने की अनुमति देता है।

स्टैटिक वेब पेज आमतौर पर इसमें लिखे जाते हैं:

- A. HTML
- B. जावा स्क्रिप्ट
- C. MS-वर्ड
- D. CSS

नीचे दिए गए विकल्पों में से सही उत्तर का चयन कीजिए:

1. केवल B और C
2. केवल A और C
3. केवल A, B और D
4. केवल C और D

**Options :**

- 485584147941. 1
- 485584147942. 2
- 485584147943. 3
- 485584147944. 4

**Question Number : 292 Question Id : 48558436987 Question Type : MCQ Option Shuffling : No Is Question Mandatory : No Calculator : None Response Time : N.A Think Time : N.A Minimum Instruction Time : 0**

**Correct Marks : 5 Wrong Marks : 1**

**Question Key Details :**

Key	Value
Comprehension	Comp2

The internet is the global network of computing devices. Computers are either connected to a modem through a cable or wirelessly (Wi-Fi).

Each one of us might have visited one or the other website. The first page of the website is called home page. It generally contains information or links to all the related pages. Each webpage has a unique address that is visible on the address bar. The web pages that are linked to form a website share a unique domain name. For example, <https://swayam.gov.in/> is a website by the Government of India. A web page can be static or dynamic. A web server is used to store and deliver contents of a website to clients. Web hosting is a service that allows us to put a website or a web page into the internet and make it a part of world wide web.

The web page whose contents always remain same are called:

1. Dynamic web page
2. Cascading web page
3. Static web page
4. Website

**Options :**

- 485584147945. 1
- 485584147946. 2
- 485584147947. 3
- 485584147948. 4

**Question Number : 292 Question Id : 48558436987 Question Type : MCQ Option Shuffling : No Is Question Mandatory : No Calculator : None Response Time : N.A Think Time : N.A Minimum Instruction Time : 0**

**Correct Marks : 5 Wrong Marks : 1**

**Question Key Details :**

Key	Value
-----	-------



इंटरनेट कंप्यूटिंग उपकरणों का ग्लोबल नेटवर्क है। कम्प्यूटर या तो एक केबल के माध्यम से या वायरलेस तरीके से (वाई-फाई) एक मोडेम से जुड़े होते हैं।

हम में से हरेक ने एक या दूसरी वेबसाइट देखी होगी। वेबसाइट के पहले पेज को होम पेज कहा जाता है। इसमें आम तौर पर सभी संबंधित पृष्ठों की जानकारी या लिंक होते हैं। प्रत्येक वेबपेज का एक यूनिक एड्रेस होता है जो एड्रेस बार पर दिखाई देता है। वेबसाइट बनाने के लिए लिंक किए गए वेब पेज एक यूनिक डॉमेन नेम साझा करते हैं। उदाहरण के लिए, <https://swayam.gov.in/> भारत सरकार की एक वेबसाइट है। एक वेब पेज स्टैटिक या डायनामिक हो सकता है। एक वेब सर्वर का उपयोग ग्राहकों को वेबसाइट के कन्टेन्ट्स को स्टोर करने और लिलीवर करने के लिए किया जाता है। वेब होस्टिंग एक ऐसी सर्विस है जो हमें एक वेबसाइट या वेब पेज को इंटरनेट में डालने और इसे वर्ल्ड वाइड वेब का हिस्सा बनाने की अनुमति देता है।

वह वेब पेज जिसके कन्टेन्ट्स हमेशा समान रहते हैं, कहलाते हैं -

1. डायनामिक वेब पेज
2. केसकेडिंग वेब पेज
3. स्टैटिक वेब पेज
4. वेबसाइट

**Options :**

485584147945. 1  
485584147946. 2  
485584147947. 3  
485584147948. 4

**Question Number : 293 Question Id : 48558436988 Question Type : MCQ Option Shuffling : No Is Question Mandatory : No Calculator : None Response Time : N.A Think Time : N.A Minimum Instruction Time : 0**

**Correct Marks : 5 Wrong Marks : 1**

**Question Key Details :**

Key	Value
Comprehension	Comp2

The internet is the global network of computing devices. Computers are either connected to a modem through a cable or wirelessly (Wi-Fi).

Each one of us might have visited one or the other website. The first page of the website is called home page. It generally contains information or links to all the related pages. Each webpage has a unique address that is visible on the address bar. The web pages that are linked to form a website share a unique domain name. For example, <https://swayam.gov.in/> is a website by the Government of India. A web page can be static or dynamic. A web server is used to store and deliver contents of a website to clients. Web hosting is a service that allows us to put a website or a web page into the internet and make it a part of world wide web.

The web page unique address is known as \_\_\_\_\_

1. Address bar
2. URL
3. Website
4. Domain

**Options :**

485584147949. 1  
485584147950. 2

485584147951. 3  
485584147952. 4

Question Number : 293 Question Id : 48558436988 Question Type : MCQ Option Shuffling : No Is Question Mandatory : No Calculator : None  
Response Time : N.A Think Time : N.A Minimum Instruction Time : 0  
Correct Marks : 5 Wrong Marks : 1

Question Key Details :

Key	Value
Comprehension	Comp2

इंटरनेट कंप्यूटिंग उपकरणों का ग्लोबल नेटवर्क है। कम्प्यूटर या तो एक केबल के माध्यम से या वायरलेस तरीके से (वाई-फाई) एक मॉडेम से जुड़े होते हैं।

हम में से हरेक ने एक या दूसरी वेबसाइट देखी होगी। वेबसाइट के पहले पेज को होम पेज कहा जाता है। इसमें आम तौर पर सभी संबंधित पृष्ठों की जानकारी या लिंक होते हैं। प्रत्येक वेबपेज का एक यूनिक एड्रेस होता है जो एड्रेस बार पर दिखाई देता है। वेबसाइट बनाने के लिए लिंक किए गए वेब पेज एक यूनिक डॉमेन नेम साझा करते हैं। उदाहरण के लिए, <https://swayam.gov.in/> भारत सरकार की एक वेबसाइट है। एक वेब पेज स्टैटिक या डायनामिक हो सकता है। एक वेब सर्वर का उपयोग ग्राहकों को वेबसाइट के कन्टेंट्स को स्टोर करने और लिलीवर करने के लिए किया जाता है। वेब होस्टिंग एक ऐसी सर्विस है जो हमें एक वेबसाइट या वेब पेज को इंटरनेट में डालने और इसे वर्ल्ड वाइड वेब का हिस्सा बनाने की अनुमति देता है।

वेब पेज के यूनिक एड्रेस को \_\_\_\_\_ के रूप में जाना जाता है।

1. एड्रेस बार
2. URL
3. वेबसाइट
4. डॉमेन

Options :

485584147949. 1  
485584147950. 2  
485584147951. 3  
485584147952. 4

Question Number : 294 Question Id : 48558436989 Question Type : MCQ Option Shuffling : No Is Question Mandatory : No Calculator : None  
Response Time : N.A Think Time : N.A Minimum Instruction Time : 0  
Correct Marks : 5 Wrong Marks : 1

Question Key Details :

Key	Value
Comprehension	Comp2

The internet is the global network of computing devices. Computers are either connected to a modem through a cable or wirelessly (Wi-Fi).

Each one of us might have visited one or the other website. The first page of the website is called home page. It generally contains information or links to all the related pages. Each webpage has a unique address that is visible on the address bar. The web pages that are linked to form a website share a unique domain name. For example, <https://swayam.gov.in/> is a website by the Government of India. A web page can be static or dynamic. A web server is used to store and deliver contents of a website to clients. Web hosting is a service that allows us to put a website or a web page into the internet and make it a part of world wide web.

The domain name in the web address given below is \_\_\_\_\_.

<http://www.ncert.nic.in>

1. http
2. www
3. in
4. ncert.nic.in

**Options :**

485584147953. 1  
485584147954. 2  
485584147955. 3  
485584147956. 4

**Question Number : 294 Question Id : 48558436989 Question Type : MCQ Option Shuffling : No Is Question Mandatory : No Calculator : None Response Time : N.A Think Time : N.A Minimum Instruction Time : 0**

**Correct Marks : 5 Wrong Marks : 1**

**Question Key Details :**

Key	Value
Comprehension	Comp2

इंटरनेट कंप्यूटिंग उपकरणों का ग्लोबल नेटवर्क है। कम्प्यूटर या तो एक केबल के माध्यम से या वायरलेस तरीके से (वाई-फाई) एक मॉडम से जुड़े होते हैं।

हम में से हरेक ने एक या दूसरी वेबसाइट देखी होगी। वेबसाइट के पहले पेज को होम पेज कहा जाता है। इसमें आम तौर पर सभी संबंधित पृष्ठों की जानकारी या लिंक होते हैं। प्रत्येक वेबपेज का एक यूनिक एड्रेस होता है जो एड्रेस बार पर दिखाई देता है। वेबसाइट बनाने के लिए लिंक किए गए वेब पेज एक यूनिक डॉमेन नेम साझा करते हैं। उदाहरण के लिए, <https://swayam.gov.in/> भारत सरकार की एक वेबसाइट है। एक वेब पेज स्टैटिक या डायनामिक हो सकता है। एक वेब सर्वर का उपयोग ग्राहकों को वेबसाइट के कन्टेंट्स को स्टोर करने और डिलीवर करने के लिए किया जाता है। वेब होस्टिंग एक ऐसी सर्विस है जो हमें एक वेबसाइट या वेब पेज को इंटरनेट में डालने और इसे वर्ल्ड वाइड वेब का हिस्सा बनाने की अनुमति देता है।

नीचे दिए गए वेब एड्रेस में डॉमेन नेम है -

<http://www.ncert.nic.in>

1. http
2. www
3. in
4. ncert.nic.in

**Options :**

485584147953. 1  
485584147954. 2  
485584147955. 3  
485584147956. 4

**Question Number : 295 Question Id : 48558436990 Question Type : MCQ Option Shuffling : No Is Question Mandatory : No Calculator : None Response Time : N.A Think Time : N.A Minimum Instruction Time : 0**

**Correct Marks : 5 Wrong Marks : 1**

**Question Key Details :**

Key	Value
Comprehension	Comp2

The internet is the global network of computing devices. Computers are either connected to a modem through a cable or wirelessly (Wi-Fi).

Each one of us might have visited one or the other website. The first page of the website is called home page. It generally contains information or links to all the related pages. Each webpage has a unique address that is visible on the address bar. The web pages that are linked to form a website share a unique domain name. For example, <https://swayam.gov.in/> is a website by the Government of India. A web page can be static or dynamic. A web server is used to store and deliver contents of a website to clients. Web hosting is a service that allows us to put a website or a web page into the internet and make it a part of world wide web.

The service that allows you to post the website, so that it is available for all internet users across the globe.

1. Web server
2. Web browser
3. Web site
4. Web hosting

**Options :**

485584147957. 1  
485584147958. 2  
485584147959. 3  
485584147960. 4

**Question Number : 295 Question Id : 48558436990 Question Type : MCQ Option Shuffling : No Is Question Mandatory : No Calculator : None Response Time : N.A Think Time : N.A Minimum Instruction Time : 0**

**Correct Marks : 5 Wrong Marks : 1**

**Question Key Details :**

Key	Value
Comprehension	Comp2

इंटरनेट कंप्यूटिंग उपकरणों का ग्लोबल नेटवर्क है। कम्प्यूटर या तो एक केबल के माध्यम से या वायरलेस तरीके से (वाई-फाई) एक मोडेम से जुड़े होते हैं।

हम में से हरेक ने एक या दूसरी वेबसाइट देखी होगी। वेबसाइट के पहले पेज को होम पेज कहा जाता है। इसमें आम तौर पर सभी संबंधित पृष्ठों की जानकारी या लिंक होते हैं। प्रत्येक वेबपेज का एक यूनिक एड्रेस होता है जो एड्रेस बार पर दिखाई देता है। वेबसाइट बनाने के लिए लिंक किए गए वेब पेज एक यूनिक डोमेन नेम साझा करते हैं। उदाहरण के लिए, <https://swayam.gov.in/> भारत सरकार की एक वेबसाइट है। एक वेब पेज स्टैटिक या डायनामिक हो सकता है। एक वेब सर्वर का उपयोग ग्राहकों की वेबसाइट के कन्टेंट्स को स्टोर करने और लिवर करने के लिए किया जाता है। वेब होस्टिंग एक ऐसी सर्विस है जो हमें एक वेबसाइट या वेब पेज को इंटरनेट में डालने और इसे वर्ल्ड वाइड वेब का हिस्सा बनाने की अनुमति देता है।

वह सर्विस जो आपको वेबसाइट पोस्ट करने की अनुमति देता है, ताकि यह दुनिया भर के सभी इंटरनेट उपयोगकर्ताओं के लिए उपलब्ध हो।

1. वेब सर्वर
2. वेब ब्राउजर
3. वेब साइट
4. वेब होस्टिंग

**Options :**

485584147957. 1  
485584147958. 2

485584147959.3

485584147960.4

Sub-Section Number : 4  
Sub-Section Id : 4855842802  
Question Shuffling Allowed : Yes  
Is Section Default? : null

Question Number : 296 Question Id : 48558436991 Question Type : MCQ Option Shuffling : No Is Question Mandatory : No Calculator : None  
Response Time : N.A Think Time : N.A Minimum Instruction Time : 0

Correct Marks : 5 Wrong Marks : 1

Question Key Details :

Key	Value
Comprehension	MCQ3

What will be the output of a given infix expression  $(A+B)*(C-D)$  to convert into postfix expression?

1.  $AB+CD-*$

2.  $AB+-CD^*$

3.  $AB^{*+} - CD$

4.  $AB -^*CD+$

Options :

485584147961.1

485584147962.2

485584147963.3

485584147964.4

Question Number : 296 Question Id : 48558436991 Question Type : MCQ Option Shuffling : No Is Question Mandatory : No Calculator : None  
Response Time : N.A Think Time : N.A Minimum Instruction Time : 0

Correct Marks : 5 Wrong Marks : 1

Question Key Details :

Key	Value
Comprehension	MCQ3

दिए गए इन्फिक्स एक्सप्रेशन  $(A+B)*(C-D)$  को पोस्टफिक्स एक्सप्रेशन में बदलने के लिए आउटपुट क्या होगा?

1.  $AB+CD -*$

2.  $AB+-CD^*$

3.  $AB^{*+} - CD$

4.  $AB -^*CD+$

Options :

485584147961.1

485584147962.2

485584147963.3

485584147964.4

Question Number : 297 Question Id : 48558436992 Question Type : MCQ Option Shuffling : No Is Question Mandatory : No Calculator : None  
Response Time : N.A Think Time : N.A Minimum Instruction Time : 0

Correct Marks : 5 Wrong Marks : 1

Question Key Details :

Key	Value
Comprehension	MCQ3

Which of the following sorting has maximum number of swapping elements?

1. Bubble Sort
2. Selection Sort
3. Insertion Sort
4. Merge Sort

Options :

- 485584147965. 1
- 485584147966. 2
- 485584147967. 3
- 485584147968. 4

Question Number : 297 Question Id : 48558436992 Question Type : MCQ Option Shuffling : No Is Question Mandatory : No Calculator : None Response Time : N.A Think Time : N.A Minimum Instruction Time : 0

Correct Marks : 5 Wrong Marks : 1

Question Key Details :

Key	Value
Comprehension	MCQ3

निम्नलिखित में से किस सॉर्टिंग में अदला-बदली एलिमेंटों की अधिकतम संख्या है?

1. बबल सॉर्ट
2. सिलेक्शन सॉर्ट
3. इन्सर्शन सॉर्ट
4. मर्ज सॉर्ट

Options :

- 485584147965. 1
- 485584147966. 2
- 485584147967. 3
- 485584147968. 4

Question Number : 298 Question Id : 48558436993 Question Type : MCQ Option Shuffling : No Is Question Mandatory : No Calculator : None Response Time : N.A Think Time : N.A Minimum Instruction Time : 0

Correct Marks : 5 Wrong Marks : 1

Question Key Details :

Key	Value
Comprehension	MCQ3

A database is a \_\_\_\_\_

1. collection of tuples
2. collection of tables
3. collection of attributes
4. collection of queries

Options :

- 485584147969. 1
- 485584147970. 2
- 485584147971. 3
- 485584147972. 4

Question Number : 298 Question Id : 48558436993 Question Type : MCQ Option Shuffling : No Is Question Mandatory : No Calculator : None  
Response Time : N.A Think Time : N.A Minimum Instruction Time : 0

Correct Marks : 5 Wrong Marks : 1

Question Key Details :

Key	Value
Comprehension	MCQ3

डेटाबेस एक \_\_\_\_\_ है।

1. टपल्स का समूह
2. टेबल्स का समूह
3. एंटीब्यूट्स का समूह
4. केरीज़ का समूह

Options :

- 485584147969. 1
- 485584147970. 2
- 485584147971. 3
- 485584147972. 4

Question Number : 299 Question Id : 48558436994 Question Type : MCQ Option Shuffling : No Is Question Mandatory : No Calculator : None  
Response Time : N.A Think Time : N.A Minimum Instruction Time : 0

Correct Marks : 5 Wrong Marks : 1

Question Key Details :

Key	Value
Comprehension	MCQ3

Which statement is true?

1. Natural join removes the redundant attributes
2. Where clause in SQL query can be used without condition
3. Insert comand is the part of Data Definition Language (DDL)
4. Alter command is the part of Data Definition Language (DDL)

Options :

- 485584147973. 1
- 485584147974. 2
- 485584147975. 3
- 485584147976. 4

Question Number : 299 Question Id : 48558436994 Question Type : MCQ Option Shuffling : No Is Question Mandatory : No Calculator : None  
Response Time : N.A Think Time : N.A Minimum Instruction Time : 0

Correct Marks : 5 Wrong Marks : 1

Question Key Details :

Key	Value
Comprehension	MCQ3

कौन-सा कथन सत्य है?

1. नेचुरल ज्वाइन रिजल्ट-सेट एट्रीब्यूट को हटा देता है।
2. SQL क्वेरी में Where क्लॉज बिना किसी शर्त के उपयोग किया जा सकता है
3. इन्सर्ट कमांड डेटा डेफिनिशन (DDL) लैंग्वेज का हिस्सा है
4. ऑल्टर कमांड डेटा डेफिनिशन (DDL) लैंग्वेज का हिस्सा है

Options :

- 485584147973. 1
- 485584147974. 2
- 485584147975. 3
- 485584147976. 4

Question Number : 300 Question Id : 48558436995 Question Type : MCQ Option Shuffling : No Is Question Mandatory : No Calculator : None Response Time : N.A Think Time : N.A Minimum Instruction Time : 0

Correct Marks : 5 Wrong Marks : 1

Question Key Details :

Key	Value
Comprehension	MCQ3

What will be the output of the following Query?

SELECT \* FROM EMPLOYEE WHERE Ename like 'S%';

1. The query will select details of all those employees whose name ends with S
2. The query will select details of all those employees whose name starts with S.
3. The query will select details of all those employees whose name does not starts with S
4. The query will select details of all those employees whose name does not ends with S

Options :

- 485584147977. 1
- 485584147978. 2
- 485584147979. 3
- 485584147980. 4

Question Number : 300 Question Id : 48558436995 Question Type : MCQ Option Shuffling : No Is Question Mandatory : No Calculator : None Response Time : N.A Think Time : N.A Minimum Instruction Time : 0

Correct Marks : 5 Wrong Marks : 1

Question Key Details :

Key	Value
Comprehension	MCQ3

निम्नलिखित क्वेरी का आउटपुट क्या होगा?

SELECT \* FROM EMPLOYEE WHERE Ename like 'S%';

1. क्वेरी उन सभी कर्मचारियों के विवरण का चयन करेगी जिनका नाम S से समाप्त होता है।
2. क्वेरी उन सभी कर्मचारियों के विवरण का चयन करेगी जिनका नाम S से शुरू होता है।
3. क्वेरी उन सभी कर्मचारियों के विवरण का चयन करेगी जिनका नाम S से शुरू नहीं होता है
4. क्वेरी उन सभी कर्मचारियों के विवरण का चयन करेगी जिनका नाम S से शुरू होता है

Options :

- 485584147977. 1



485584147978. 2  
485584147979. 3  
485584147980. 4

## Informatics Practices

**Section Id :** 485584985  
**Section Number :** 3  
**Section type :** Online  
**Mandatory or Optional :** Optional  
**Number of Questions :** 35  
**Number of Questions to be attempted :** 25  
**Section Marks :** 125  
**Enable Mark as Answered Mark for Review and Clear Response :** Yes  
**Maximum Instruction Time :** 0  
**Sub-Section Number :** 1  
**Sub-Section Id :** 4855842803  
**Question Shuffling Allowed :** Yes  
**Is Section Default? :** null

**Question Number :** 301 **Question Id :** 48558436996 **Question Type :** MCQ **Option Shuffling :** No **Is Question Mandatory :** No **Calculator :** None  
**Response Time :** N.A **Think Time :** N.A **Minimum Instruction Time :** 0  
**Correct Marks :** 5 **Wrong Marks :** 1

**Question Key Details :**

Key	Value
Comprehension	MCQ4

Consider the statement written below:

	Shale	Rishabh	Siddharth
Maths	91	90	88
English	80	96	92

What is the output of python code; where ResultDF is the DataFrame

```
ResultDF.loc['maths']>=90
```

1. True, True, False
2. True, False, True
3. False, False, True
4. False, True, True

**Options :**

485584147981. 1  
485584147982. 2  
485584147983. 3  
485584147984. 4

**Question Number :** 301 **Question Id :** 48558436996 **Question Type :** MCQ **Option Shuffling :** No **Is Question Mandatory :** No **Calculator :** None  
**Response Time :** N.A **Think Time :** N.A **Minimum Instruction Time :** 0  
**Correct Marks :** 5 **Wrong Marks :** 1

**Question Key Details :**

Key	Value
Comprehension	MCQ4

नीचे लिखे गए कथन पर विचार करें:

	Shalu	Rishabh	Siddhant
Maths	91	90	88
English	80	96	92

पायथन कोड का आउटपुट क्या है, जहाँ ResultDF, DataFrame है

```
ResultDF.loc['maths']>=90
```

1. True, True, False
2. True, False, True
3. False, False, True
4. False, True, True

**Options :**

- 485584147981. 1
- 485584147982. 2
- 485584147983. 3
- 485584147984. 4

**Question Number : 302 Question Id : 48558436997 Question Type : MCQ Option Shuffling : No Is Question Mandatory : No Calculator : None Response Time : N.A Think Time : N.A Minimum Instruction Time : 0**

**Correct Marks : 5 Wrong Marks : 1**

**Question Key Details :**

Key	Value
Comprehension	MCQ4

Match List I with List II

LIST I	LIST II
A. loc	I. to display row labels
B. iloc	II. to display a tuple representing the dimensionality of the DataFrame
C. shape	III. Both start and end label are included
D. index	IV. Slices end index is excluded

Choose the correct answer from the options given below;

1. A-I, B-III, C-II, D-IV
2. A-III, B-IV, C-II, D-I
3. A-IV, B-III, C-I, D-II
4. A-IV, B-III, C-II, D-I

**Options :**

- 485584147985. 1
- 485584147986. 2
- 485584147987. 3
- 485584147988. 4

**Question Number : 302 Question Id : 48558436997 Question Type : MCQ Option Shuffling : No Is Question Mandatory : No Calculator : None Response Time : N.A Think Time : N.A Minimum Instruction Time : 0**

**Correct Marks : 5 Wrong Marks : 1**

**Question Key Details :**

Key	Value
Comprehension	MCQ4

सूची I का सूची II से मिलान कीजिए

सूची I	सूची II
A. loc	I. री लेबल्स को दर्शाने के लिए
B. iloc	II. डेटाफ्रेम के आयाम का प्रतिनिधित्व करने वाला टपल प्रदर्शित करने के लिए
C. shape	III. स्टार्ट और एंड लेबल दोनों शामिल हैं
D. index	IV. स्टाइस एंड इंडेक्स को बाहर रखा गया है

निम्नलिखित विकल्पों में से सही उत्तर का चयन कीजिए :

1. A-I, B-III, C-II, D-IV
2. A-III, B-IV, C-II, D-I
3. A-IV, B-III, C-I, D-II
4. A-IV, B-III, C-II, D-I

**Options :**

485584147985. 1  
485584147986. 2  
485584147987. 3  
485584147988. 4

Question Number : 303 Question Id : 48558436998 Question Type : MCQ Option Shuffling : No Is Question Mandatory : No Calculator : None  
Response Time : N.A Think Time : N.A Minimum Instruction Time : 0

Correct Marks : 5 Wrong Marks : 1

Question Key Details :

Key	Value
Comprehension	MCQ4

Explain the given statement:

`df.iloc[1:5,:5]`

1. will display 1st and 5th row
2. will display 2nd row only
3. will display second to fourth rows, first 5 column values
4. will display second to fifth rows, and 5th column values

**Options :**

485584147989. 1  
485584147990. 2  
485584147991. 3  
485584147992. 4

Question Number : 303 Question Id : 48558436998 Question Type : MCQ Option Shuffling : No Is Question Mandatory : No Calculator : None  
Response Time : N.A Think Time : N.A Minimum Instruction Time : 0

Correct Marks : 5 Wrong Marks : 1

Question Key Details :

Key	Value
Comprehension	MCQ4

दिए गए कथन की व्याख्या करें:

`df.iloc[1:5,:5]`

1. पहली और पांचवी पंक्ति प्रदर्शित करेगा
2. केवल दूसरी पंक्ति प्रदर्शित करेगा
3. दूसरी से चौथी पंक्तियां, पहले 5 कॉलम का मान प्रदर्शित करेगा
4. दूसरी से पांचवी पंक्तियों और 5वें कॉलम के मानों को प्रदर्शित करेगा

**Options :**

- 485584147989. 1
- 485584147990. 2
- 485584147991. 3
- 485584147992. 4

**Question Number : 304 Question Id : 48558436999 Question Type : MCQ Option Shuffling : No Is Question Mandatory : No Calculator : None Response Time : N.A Think Time : N.A Minimum Instruction Time : 0**

**Correct Marks : 5 Wrong Marks : 1**

**Question Key Details :**

Key	Value
Comprehension	MCQ4

To delete a column from DataFrame, you may use the statement \_\_\_\_\_.

1. remove
2. drop
3. del
4. cancel

**Options :**

- 485584147993. 1
- 485584147994. 2
- 485584147995. 3
- 485584147996. 4

**Question Number : 304 Question Id : 48558436999 Question Type : MCQ Option Shuffling : No Is Question Mandatory : No Calculator : None Response Time : N.A Think Time : N.A Minimum Instruction Time : 0**

**Correct Marks : 5 Wrong Marks : 1**

**Question Key Details :**

Key	Value
Comprehension	MCQ4

डेटाफ्रेम से किसी कॉलम को हटाने के लिए, आप इस कथन का प्रयोग कर सकते हैं -

1. remove
2. drop
3. del
4. cancel

**Options :**

- 485584147993. 1
- 485584147994. 2
- 485584147995. 3

485584147996.4

Question Number : 305 Question Id : 48558437000 Question Type : MCQ Option Shuffling : No Is Question Mandatory : No Calculator : None  
Response Time : N.A Think Time : N.A Minimum Instruction Time : 0

Correct Marks : 5 Wrong Marks : 1

Question Key Details :

Key	Value
Comprehension	MCQ4

The max function of Pandas descriptive statistics axis = 0 gives:

1. Row wise output
2. column wise output
3. both row an column wise output
4. axis is an invalid parameter

Options :

485584147997. 1  
485584147998. 2  
485584147999. 3  
485584148000. 4

Question Number : 305 Question Id : 48558437000 Question Type : MCQ Option Shuffling : No Is Question Mandatory : No Calculator : None  
Response Time : N.A Think Time : N.A Minimum Instruction Time : 0

Correct Marks : 5 Wrong Marks : 1

Question Key Details :

Key	Value
Comprehension	MCQ4

Pandas (पांडाज) का max फंक्शन वर्णनात्मक सांख्यिकी axis = 0 देता है:

1. पंक्ति वार आउटपुट
2. स्तंभ (कॉलम) वार आउटपुट
3. दोनों पंक्ति और स्तंभ वार आउटपुट
4. अक्ष एक अमान्य पैरामीटर है

Options :

485584147997. 1  
485584147998. 2  
485584147999. 3  
485584148000. 4

Question Number : 306 Question Id : 48558437001 Question Type : MCQ Option Shuffling : No Is Question Mandatory : No Calculator : None  
Response Time : N.A Think Time : N.A Minimum Instruction Time : 0

Correct Marks : 5 Wrong Marks : 1

Question Key Details :

Key	Value
Comprehension	MCQ4

Which of the following function will be used by Sonia, as she wants to find out the value that appears most number of times in the given data of an attributes of a DataFrame.

1. Mean
2. Median
3. Mode
4. Standard deviation

**Options :**

- 485584148001. 1
- 485584148002. 2
- 485584148003. 3
- 485584148004. 4

**Question Number : 306 Question Id : 48558437001 Question Type : MCQ Option Shuffling : No Is Question Mandatory : No Calculator : None Response Time : N.A Think Time : N.A Minimum Instruction Time : 0**

**Correct Marks : 5 Wrong Marks : 1**

**Question Key Details :**

Key	Value
Comprehension	MCQ4

निम्नलिखित में से कौन सा फ़ंक्शन सोनिया द्वारा उपयोग किया जाएगा, क्योंकि वह डेटाफ्रेम के एट्रीब्यूट्स को दिए गए डेटा में सबसे अधिक बार दिखाई देने वाले मूल्य का पता लगाना चाहती है।

1. माध्य
2. माध्यिका
3. बहुलक
4. मानक विचलन

**Options :**

- 485584148001. 1
- 485584148002. 2
- 485584148003. 3
- 485584148004. 4

**Question Number : 307 Question Id : 48558437002 Question Type : MCQ Option Shuffling : No Is Question Mandatory : No Calculator : None Response Time : N.A Think Time : N.A Minimum Instruction Time : 0**

**Correct Marks : 5 Wrong Marks : 1**

**Question Key Details :**

Key	Value
Comprehension	MCQ4

Which of the following is not a function in Pandas?

1. DataFrame( )
2. mean( )
3. median( )
4. value\_sort( )

**Options :**

- 485584148005. 1
- 485584148006. 2
- 485584148007. 3

485584148008. 4

Question Number : 307 Question Id : 48558437002 Question Type : MCQ Option Shuffling : No Is Question Mandatory : No Calculator : None  
Response Time : N.A Think Time : N.A Minimum Instruction Time : 0  
Correct Marks : 5 Wrong Marks : 1

Question Key Details :

Key	Value
Comprehension	MCQ4

निम्नलिखित में से कौन सा पांडाज़ में कार्य नहीं है?

1. DataFrame( )
2. mean( )
3. median( )
4. value\_sort( )

Options :

485584148005. 1  
485584148006. 2  
485584148007. 3  
485584148008. 4

Question Number : 308 Question Id : 48558437003 Question Type : MCQ Option Shuffling : No Is Question Mandatory : No Calculator : None  
Response Time : N.A Think Time : N.A Minimum Instruction Time : 0  
Correct Marks : 5 Wrong Marks : 1

Question Key Details :

Key	Value
Comprehension	MCQ4

Match List I with List II

LIST I		LIST II	
A.	Switch	I.	Serves as the entry and exit point of a network.
B.	Router	II.	Use to connect multiple communicating devices.
C.	Gateway	III.	Regenerate the original signal.
D.	Repeater	IV.	Data transmission from one network to other network.

Choose the correct answer from the options given below:

1. A-II, B-IV, C-III, D-I
2. A-II, B-IV, C-I, D-III
3. A-IV, B-II, C-I, D-III
4. A-I, B-III, C-II, D-IV

Options :

485584148009. 1  
485584148010. 2  
485584148011. 3  
485584148012. 4

Question Number : 308 Question Id : 48558437003 Question Type : MCQ Option Shuffling : No Is Question Mandatory : No Calculator : None  
Response Time : N.A Think Time : N.A Minimum Instruction Time : 0  
Correct Marks : 5 Wrong Marks : 1

Question Key Details :

Key	Value
-----	-------

सूची I का सूची II से मिलान कीजिए

सूची I	सूची II
A. स्विच	I. नेटवर्क के प्रवेश और निकास बिंदु के रूप में कार्य करता है
B. राउटर	II. एक से अधिक उपकरणों को जोड़ने के लिए उपयोग करते हैं
C. गेटवे	III. वास्तविक सिग्नल को पुनःप्राप्त उत्पन्न करना
D. रिपीटर	IV. एक नेटवर्क से दूसरे नेटवर्क में डेटा ट्रांसमिशन करना

निम्नलिखित विकल्पों में से सही उत्तर का चयन कीजिए :

1. A-II, B-IV, C-III, D-I
2. A-II, B-IV, C-I, D-III
3. A-IV, B-II, C-I, D-III
4. A-I, B-III, C-II, D-IV

**Options :**

485584148009. 1  
485584148010. 2  
485584148011. 3  
485584148012. 4

**Question Number : 309 Question Id : 48558437004 Question Type : MCQ Option Shuffling : No Is Question Mandatory : No Calculator : None Response Time : N.A Think Time : N.A Minimum Instruction Time : 0**

**Correct Marks : 5 Wrong Marks : 1**

**Question Key Details :**

Key	Value
Comprehension	MCQ4

\_\_\_\_\_ is used to block the access to the data, also encrypt the data and demands payment to recover data.

1. Trojan horse
2. Spyware
3. Ransomware
4. Keyloggers

**Options :**

485584148013. 1  
485584148014. 2  
485584148015. 3  
485584148016. 4

**Question Number : 309 Question Id : 48558437004 Question Type : MCQ Option Shuffling : No Is Question Mandatory : No Calculator : None Response Time : N.A Think Time : N.A Minimum Instruction Time : 0**

**Correct Marks : 5 Wrong Marks : 1**

**Question Key Details :**

Key	Value
Comprehension	MCQ4



का उपयोग डेटा तक पहुंच को ब्लॉक करने के लिए किया जाता है, डेटा को एन्क्रिप्ट भी करता है और डेटा को पुनर्प्राप्त करने के लिए भुगतान की मांग करता है।

1. ट्रांजन हॉर्स
2. स्पाइवेयर
3. रेंसमवेयर
4. की लॉगर्स

**Options :**

- 485584148013. 1
- 485584148014. 2
- 485584148015. 3
- 485584148016. 4

**Question Number : 310 Question Id : 48558437005 Question Type : MCQ Option Shuffling : No Is Question Mandatory : No Calculator : None Response Time : N.A Think Time : N.A Minimum Instruction Time : 0**

**Correct Marks : 5 Wrong Marks : 1**

**Question Key Details :**

Key	Value
Comprehension	MCQ4

What are effects of long hours of using digital device and internet?

1. It is good for health.
2. It increases the sitting capacity.
3. It makes you more aware about technology.
4. It has negative impact on health.

**Options :**

- 485584148017. 1
- 485584148018. 2
- 485584148019. 3
- 485584148020. 4

**Question Number : 310 Question Id : 48558437005 Question Type : MCQ Option Shuffling : No Is Question Mandatory : No Calculator : None Response Time : N.A Think Time : N.A Minimum Instruction Time : 0**

**Correct Marks : 5 Wrong Marks : 1**

**Question Key Details :**

Key	Value
Comprehension	MCQ4

डिजिटल डिवाइस और इंटरनेट का लंबे समय तक उपयोग करने के क्या प्रभाव हैं?

1. यह सेहत के लिए अच्छा होता है
2. यह बैठने की क्षमता को बढ़ाता है
3. यह आपको तकनीक के बारे में अधिक जागरूक बनाता है
4. इसका स्वास्थ्य पर नकारात्मक प्रभाव पड़ता है

**Options :**

- 485584148017. 1
- 485584148018. 2
- 485584148019. 3

485584148020. 4

Question Number : 311 Question Id : 48558437006 Question Type : MCQ Option Shuffling : No Is Question Mandatory : No Calculator : None  
Response Time : N.A Think Time : N.A Minimum Instruction Time : 0

Correct Marks : 5 Wrong Marks : 1

Question Key Details :

Key	Value
Comprehension	MCQ4

What we use to protect our device from threats?

1. Firewall, Antivirus
2. Adware, Spyware
3. Application, Trojan
4. Worms, Virus

Options :

485584148021. 1  
485584148022. 2  
485584148023. 3  
485584148024. 4

Question Number : 311 Question Id : 48558437006 Question Type : MCQ Option Shuffling : No Is Question Mandatory : No Calculator : None  
Response Time : N.A Think Time : N.A Minimum Instruction Time : 0

Correct Marks : 5 Wrong Marks : 1

Question Key Details :

Key	Value
Comprehension	MCQ4

हम अपने डिवाइस को खतरों से बचाने के लिए क्या उपयोग करते हैं?

1. फ़ायरवॉल, एंटीवायरस
2. ऐडवेयर, स्पाइवेयर
3. एप्लीकेशन, ट्रोजन
4. वर्म्स, वायरस

Options :

485584148021. 1  
485584148022. 2  
485584148023. 3  
485584148024. 4

Question Number : 312 Question Id : 48558437007 Question Type : MCQ Option Shuffling : No Is Question Mandatory : No Calculator : None  
Response Time : N.A Think Time : N.A Minimum Instruction Time : 0

Correct Marks : 5 Wrong Marks : 1

Question Key Details :

Key	Value
Comprehension	MCQ4

WEEE stands for:

1. World Electrical and Electronic Equipment
2. World Electrical and Economic Equipment
3. Waste Electrical and Electronic Equipment
4. Waste Electrical and Economic Equipment

**Options :**

- 485584148025. 1
- 485584148026. 2
- 485584148027. 3
- 485584148028. 4

**Question Number : 312 Question Id : 48558437007 Question Type : MCQ Option Shuffling : No Is Question Mandatory : No Calculator : None Response Time : N.A Think Time : N.A Minimum Instruction Time : 0**

**Correct Marks : 5 Wrong Marks : 1**

**Question Key Details :**

Key	Value
Comprehension	MCQ4

WEEE का अर्थ है:

1. World Electrical and Electronic Equipment
2. World Electrical and Economic Equipment
3. Waste Electrical and Electronic Equipment
4. Waste Electrical and Economic Equipment

**Options :**

- 485584148025. 1
- 485584148026. 2
- 485584148027. 3
- 485584148028. 4

**Question Number : 313 Question Id : 48558437008 Question Type : MCQ Option Shuffling : No Is Question Mandatory : No Calculator : None Response Time : N.A Think Time : N.A Minimum Instruction Time : 0**

**Correct Marks : 5 Wrong Marks : 1**

**Question Key Details :**

Key	Value
Comprehension	MCQ4

Select the correct statement about software:

1. Skype and Adobe Acrobat Reader are not Freeware
2. Skype is not Freeware and Adobe Acrobat Reader is Freeware
3. Skype is Freeware and Adobe Acrobat Reader is not
4. Skype Freeware and Adobe Acrobat Reader are Freeware

**Options :**

- 485584148029. 1
- 485584148030. 2
- 485584148031. 3
- 485584148032. 4

Question Number : 313 Question Id : 48558437008 Question Type : MCQ Option Shuffling : No Is Question Mandatory : No Calculator : None Response Time : N.A Think Time : N.A Minimum Instruction Time : 0

Correct Marks : 5 Wrong Marks : 1

Question Key Details :

Key	Value
Comprehension	MCQ4

सॉफ्टवेयर के बारे में सही कथन का चयन करें।

1. स्क्राइप और एडोब एक्रोबेट रीडर, फ्रीवेयर नहीं है।
2. स्क्राइप फ्रीवेयर नहीं है और एडोब एक्रोबेट रीडर फ्रीवेयर है।
3. स्क्राइप फ्रीवेयर है और एडोब एक्रोबेट रीडर नहीं।
4. स्क्राइप फ्रीवेयर और एडोब एक्रोबेट रीडर फ्रीवेयर हैं।

Options :

485584148029. 1  
485584148030. 2  
485584148031. 3  
485584148032. 4

Question Number : 314 Question Id : 48558437009 Question Type : MCQ Option Shuffling : No Is Question Mandatory : No Calculator : None Response Time : N.A Think Time : N.A Minimum Instruction Time : 0

Correct Marks : 5 Wrong Marks : 1

Question Key Details :

Key	Value
Comprehension	MCQ4

Match List I with List II

LIST I		LIST II	
A.	Trial created when we intentionally submit data	I.	FOSS
B.	Software made available for free public access	II.	Plagiarism
C.	Hacking	III.	Active digital footprint
D.	Presenting someone else's idea as one's own idea	IV.	cyber crime

Choose the correct answer from the options given below:

1. A-I, B-II, C-IV, D-III
2. A-II, B-I, C-III, D-IV
3. A-III, B-I, C-IV, D-II
4. A-I, B-IV, C-II, D-III

Options :

485584148033. 1  
485584148034. 2  
485584148035. 3  
485584148036. 4

Question Number : 314 Question Id : 48558437009 Question Type : MCQ Option Shuffling : No Is Question Mandatory : No Calculator : None Response Time : N.A Think Time : N.A Minimum Instruction Time : 0

Correct Marks : 5 Wrong Marks : 1

Question Key Details :

Key	Value
Comprehension	MCQ4

सूची I का सूची II से मिलान कीजिए

सूची I	सूची II
A. जब हम जान बूझकर डेटा सबमिट करते हैं तो ट्रैल बनाया जाता है	I. FOSS
B. सॉफ्टवेयर मुफ्त सार्वजनिक पहुंच के लिए उपलब्ध कराया गया	II. प्रोग्रामिंग
C. ट्रेकिंग	III. सक्रिय डिजिटल पदचिन्ह
D. किसी और के विचार को अपने विचार के रूप में प्रस्तुत करना	IV. साइबर क्राइम

निम्नलिखित विकल्पों में से सही उत्तर का चयन कीजिए :

1. A-I, B-II, C-IV, D-III
2. A-II, B-I, C-III, D-IV
3. A-III, B-I, C-IV, D-II
4. A-I, B-IV, C-II, D-III

Options :

485584148033. 1  
485584148034. 2  
485584148035. 3  
485584148036. 4

Question Number : 315 Question Id : 48558437010 Question Type : MCQ Option Shuffling : No Is Question Mandatory : No Calculator : None Response Time : N.A Think Time : N.A Minimum Instruction Time : 0

Correct Marks : 5 Wrong Marks : 1

Question Key Details :

Key	Value
Comprehension	MCQ4

Which of the following statements are not true?

- A. Radiowaves can move only in one direction
- B. HTTP and FTP works on clients server model
- C. The optical fibre cable carries data as light
- D. Bluetooth used licensed frequency band 3KHz-1GHz
- E. Microwaves can not be used in radar and satellite.

Choose the correct answer from the options given below:

1. A, B and C only
2. B, C and E only
3. A, D and E only
4. A, B and D only

Options :

485584148037. 1  
485584148038. 2  
485584148039. 3  
485584148040. 4

Question Number : 315 Question Id : 48558437010 Question Type : MCQ Option Shuffling : No Is Question Mandatory : No Calculator : None Response Time : N.A Think Time : N.A Minimum Instruction Time : 0

Correct Marks : 5 Wrong Marks : 1

Question Key Details :

Key	Value
Comprehension	MCQ4

निम्नलिखित में से कौन-सा कथन सत्य नहीं है?

- A. रेडियो तरंगे केवल एक ही दिशा में गति कर सकती हैं
- B. HTTP और FTP क्लाउड सर्वर मॉडल पर काम करते हैं
- C. ऑप्टिकल फाइबर केवल डेटा को प्रकाश के रूप में वहन करता है
- D. ब्लूटूथ लाइसेंस फ्रीकेंसी बैंड 3KHz-1GHz का प्रयोग करता है
- E. माइक्रोवेव्स का प्रयोग रडार और सैटलाइट में नहीं होता है

नीचे दिए गए विकल्पों में से सही उत्तर का चयन कीजिए:

- 1. केवल A, B और C
- 2. केवल B, C और E
- 3. केवल A, D और E
- 4. केवल A, B और D

Options :

- 485584148037. 1
- 485584148038. 2
- 485584148039. 3
- 485584148040. 4

Question Number : 316 Question Id : 48558437011 Question Type : MCQ Option Shuffling : No Is Question Mandatory : No Calculator : None Response Time : N.A Think Time : N.A Minimum Instruction Time : 0

Correct Marks : 5 Wrong Marks : 1

Question Key Details :

Key	Value
Comprehension	MCQ4

Match List I with List II

LIST I		LIST II	
A.	Protocol to transfer files	I.	HTTP
B.	Protocol used in email services	II.	SMTP
C.	Protocol used to access www	III.	PPP
D.	Protocol to establish a direct link between devices after authenticating them	IV.	FTP

Choose the correct answer from the options given below:

- 1. A-I, B-II, C-III, D-IV
- 2. A-IV, B-III, C-II, D-I
- 3. A-IV, B-II, C-III, D-I
- 4. A-IV, B-II, C-I, D-III

Options :

- 485584148041. 1
- 485584148042. 2
- 485584148043. 3
- 485584148044. 4

Question Number : 316 Question Id : 48558437011 Question Type : MCQ Option Shuffling : No Is Question Mandatory : No Calculator : None Response Time : N.A Think Time : N.A Minimum Instruction Time : 0

Correct Marks : 5 Wrong Marks : 1

Question Key Details :

Key	Value
Comprehension	MCQ4

सूची I का सूची II से मिलान कीजिए

सूची I	सूची II
A. फ़ाइलों को ट्रांसफर करने के लिए प्रोटोकॉल	I. HTTP
B. ई-मेल सेवाओं में प्रयुक्त प्रोटोकॉल	II. SMTP
C. प्रोटोकॉल WWW को एक्सेस करने के लिए प्रयोग किया जाता है	III. PPP
D. प्रमाणीकरण के बाद उपकरणों के बीच सीधा तिक स्थापित करने के लिए प्रोटोकॉल	IV. FTP

निम्नलिखित विकल्पों में से सही उत्तर का चयन कीजिए :

1. A-I, B-II, C-III, D-IV
2. A-IV, B-III, C-II, D-I
3. A-IV, B-II, C-III, D-I
4. A-IV, B-II, C-I, D-III

Options :

485584148041. 1  
485584148042. 2  
485584148043. 3  
485584148044. 4

Question Number : 317 Question Id : 48558437012 Question Type : MCQ Option Shuffling : No Is Question Mandatory : No Calculator : None Response Time : N.A Think Time : N.A Minimum Instruction Time : 0

Correct Marks : 5 Wrong Marks : 1

Question Key Details :

Key	Value
Comprehension	MCQ4

In packet switching, which of the following is not correct:

1. All packet will follow the same path to reach at the destination
2. All packet will follow the different path to reach at destination.
3. Messages are broken into small packets
4. A channel is occupied only during the transmission of the packet

Options :

485584148045. 1  
485584148046. 2  
485584148047. 3  
485584148048. 4

Question Number : 317 Question Id : 48558437012 Question Type : MCQ Option Shuffling : No Is Question Mandatory : No Calculator : None Response Time : N.A Think Time : N.A Minimum Instruction Time : 0

Correct Marks : 5 Wrong Marks : 1

Question Key Details :

Key	Value
Comprehension	MCQ4

पैकेट स्विचिंग में निम्न में से कौन सा सही नहीं है?

1. सभी पैकेट गंतव्य (डेस्टीनेशन) तक पहुँचने के लिए एक ही रास्ते (पाथ) का अनुसरण करेंगे
2. सभी पैकेट गंतव्य (डेस्टीनेशन) तक पहुँचने के लिए अलग-अलग रास्तों का अनुसरण करेंगे
3. संदेशों (मैसेज) को छोटे-छोटे पैकेटों में बाटा जाता है।
4. एक चैनल का पैकेज के प्रसारण के दौरान ही कब्जा होता है।

**Options :**

- 485584148045. 1
- 485584148046. 2
- 485584148047. 3
- 485584148048. 4

**Question Number : 318 Question Id : 48558437013 Question Type : MCQ Option Shuffling : No Is Question Mandatory : No Calculator : None Response Time : N.A Think Time : N.A Minimum Instruction Time : 0**

**Correct Marks : 5 Wrong Marks : 1**

**Question Key Details :**

Key	Value
Comprehension	MCQ4

Which of the following is the type of software that has self-replicating software that causes damages to file and system?

1. Trojans
2. Viruses
3. Worm
4. Adware

**Options :**

- 485584148049. 1
- 485584148050. 2
- 485584148051. 3
- 485584148052. 4

**Question Number : 318 Question Id : 48558437013 Question Type : MCQ Option Shuffling : No Is Question Mandatory : No Calculator : None Response Time : N.A Think Time : N.A Minimum Instruction Time : 0**

**Correct Marks : 5 Wrong Marks : 1**

**Question Key Details :**

Key	Value
Comprehension	MCQ4

निम्नलिखित में से कौन सा सॉफ्टवेयर का प्रकार है जिसमें स्व-प्रतिकृति सॉफ्टवेयर है जो फ़ाइल और सिस्टम को नुकसान पहुंचाता है?

1. ट्रोजन
2. वायरस
3. वर्म
4. ऐडवेयर

**Options :**

- 485584148049. 1
- 485584148050. 2
- 485584148051. 3



485584148052. 4

Question Number : 319 Question Id : 48558437014 Question Type : MCQ Option Shuffling : No Is Question Mandatory : No Calculator : None  
Response Time : N.A Think Time : N.A Minimum Instruction Time : 0

Correct Marks : 5 Wrong Marks : 1

Question Key Details :

Key	Value
Comprehension	MCQ4

Which of the following is not an appropriate method of malware identification used by Antivirus?

1. Signature-based detection
2. Redbox detection
3. Sandbox detection
4. Data mining techniques

Options :

- 485584148053. 1
- 485584148054. 2
- 485584148055. 3
- 485584148056. 4

Question Number : 319 Question Id : 48558437014 Question Type : MCQ Option Shuffling : No Is Question Mandatory : No Calculator : None  
Response Time : N.A Think Time : N.A Minimum Instruction Time : 0

Correct Marks : 5 Wrong Marks : 1

Question Key Details :

Key	Value
Comprehension	MCQ4

निम्नलिखित में से कौन सा एंटीवायरस द्वारा उपयोग की जाने वाली मेलवेयर पहचान का उपयुक्त तरीका नहीं है?

1. सिग्नेचर बेस्ड डिटेक्शन
2. रेडबॉक्स डिटेक्शन
3. सैंडबॉक्स डिटेक्शन
4. डेटा माइनिंग तकनीक

Options :

- 485584148053. 1
- 485584148054. 2
- 485584148055. 3
- 485584148056. 4

Question Number : 320 Question Id : 48558437015 Question Type : MCQ Option Shuffling : No Is Question Mandatory : No Calculator : None  
Response Time : N.A Think Time : N.A Minimum Instruction Time : 0

Correct Marks : 5 Wrong Marks : 1

Question Key Details :

Key	Value
Comprehension	MCQ4

\_\_\_\_\_ is an attack, where the flooded requests come from compromised computers distributed across the globe or over a very large area.

1. Denial of service attack
2. Snooping
3. Distributed denial of service attack
4. Eavesdropping

**Options :**

485584148057. 1  
485584148058. 2  
485584148059. 3  
485584148060. 4

Question Number : 320 Question Id : 48558437015 Question Type : MCQ Option Shuffling : No Is Question Mandatory : No Calculator : None Response Time : N.A Think Time : N.A Minimum Instruction Time : 0

Correct Marks : 5 Wrong Marks : 1

**Question Key Details :**

Key	Value
Comprehension	MCQ4

\_\_\_\_\_ एक अटैक है, जहाँ फ्लड (बाढ़) का अनुरोध दुनिया भर में या बहुत बड़े क्षेत्र में वितरित समझौता किए गए कम्प्यूटरों से आते हैं।

1. डिनायल ऑफ सर्विस अटैक
2. स्नूपिंग
3. डिस्ट्रीब्यूटिड डिनायल ऑफ सर्विस अटैक
4. इवेसड्रॉपिंग

**Options :**

485584148057. 1  
485584148058. 2  
485584148059. 3  
485584148060. 4

Sub-Section Number :

2

Sub-Section Id :

4855842804

Question Shuffling Allowed :

No

Is Section Default? :

null

Question Number : 321 Question Id : 48558437016 Question Type : MCQ Option Shuffling : No Is Question Mandatory : No Calculator : None Response Time : N.A Think Time : N.A Minimum Instruction Time : 0

Correct Marks : 5 Wrong Marks : 1

**Question Key Details :**

Key	Value
Comprehension	Comp3

Consider the following table of: Watch

idwatch	watch_name	Price	Type	Qty
W001	High_time	10000	Unisex	100
W002	Life_time	15000	Ladies	150
W003	Wave	20000	Gents	200
W004	Golden_Time	7000	Unisex	250
W005	High_fashion	25000	Gents	NULL

State the output of the following command

select left('idwatch', 1) from Watch

1. idwatch  
W  
W  
W  
W  
W

2. idwatch  
1  
2  
3  
4  
5

3. idwatch  
L

4. idwatch  
W

**Options :**

- 485584148061. 1
- 485584148062. 2
- 485584148063. 3
- 485584148064. 4

**Question Number : 321 Question Id : 48558437016 Question Type : MCQ Option Shuffling : No Is Question Mandatory : No Calculator : None Response Time : N.A Think Time : N.A Minimum Instruction Time : 0**

**Correct Marks : 5 Wrong Marks : 1**

**Question Key Details :**

Key	Value
Comprehension	Comp3

निम्न तालिका पर विचार करें: Watch

idwatch	watch_name	Price	Type	Qty
W001	High_time	10000	Unisex	100
W002	Life_time	15000	Ladies	150
W003	Wave	20000	Gents	200
W004	Golden Time	7000	Unisex	250
W005	High_fashion	25000	Gents	NULL

निम्नलिखित कमांड का आउटपुट बताएं -

`select left('idwatch', 1) from Watch`

1. 

idwatch
W
W
W
W
W

2. 

idwatch
1
2
3
4
5

3. 

idwatch
L

4. 

idwatch
W

**Options :**

- 485584148061. 1
- 485584148062. 2
- 485584148063. 3
- 485584148064. 4

Question Number : 322 Question Id : 48558437017 Question Type : MCQ Option Shuffling : No Is Question Mandatory : No Calculator : None Response Time : N.A Think Time : N.A Minimum Instruction Time : 0

Correct Marks : 5 Wrong Marks : 1

**Question Key Details :**

Key	Value
Comprehension	Comp3

Consider the following table of: Watch

idwatch	watch_name	Price	Type	Qty
W001	High_time	10000	Unisex	100
W002	Life_time	15000	Ladies	150
W003	Wave	20000	Gents	200
W004	Golden_Time	7000	Unisex	250
W005	High_fashion	25000	Gents	NULL

State the output of the following query:

```
select length(watch_name) from Watch;
```

1. 5

2. 8

8

4

10

11

3. 9

9

4

11

12

4. 6

**Options :**

485584148065. 1

485584148066. 2

485584148067. 3

485584148068. 4

**Question Number : 322 Question Id : 48558437017 Question Type : MCQ Option Shuffling : No Is Question Mandatory : No Calculator : None Response Time : N.A Think Time : N.A Minimum Instruction Time : 0**

**Correct Marks : 5 Wrong Marks : 1**

**Question Key Details :**

Key	Value
Comprehension	Comp3

निम्न तालिका पर विचार करें: Watch

idwatch	watch_name	Price	Type	Qty
W001	High_time	10000	Unisex	100
W002	Life_time	15000	Ladies	150
W003	Wave	20000	Gents	200
W004	Golden Time	7000	Unisex	250
W005	High_fashion	25000	Gents	NULL

निम्नलिखित क्वेरी का आउटपुट बताएँ:

```
select length(watch_name) from Watch;
```

1. 5

2. 8

8

4

10

11

3. 9

9

4

11

12

4. 6

**Options :**

485584148065. 1

485584148066. 2

485584148067. 3

485584148068. 4

**Question Number : 323 Question Id : 48558437018 Question Type : MCQ Option Shuffling : No Is Question Mandatory : No Calculator : None Response Time : N.A Think Time : N.A Minimum Instruction Time : 0**

**Correct Marks : 5 Wrong Marks : 1**

**Question Key Details :**

Key	Value
Comprehension	Comp3

Consider the following table of: Watch

idwatch	watch_name	Price	Type	Qty
W001	High_time	10000	Unisex	100
W002	Life_time	15000	Ladies	150
W003	Wave	20000	Gents	200
W004	Golden_Time	7000	Unisex	250
W005	High_fashion	25000	Gents	NULL

State the changes in the table when the following query is expressed:

update Watch set Qty = Qty+100

Where Type = "Gents"

1. Qty

300

NULL

2. Qty

300

100

3. Qty

200

250

400

450

100

4. Qty

200

250

400

450

NULL

**Options :**

485584148069. 1

485584148070. 2

485584148071. 3

485584148072. 4

Question Number : 323 Question Id : 48558437018 Question Type : MCQ Option Shuffling : No Is Question Mandatory : No Calculator : None  
Response Time : N.A Think Time : N.A Minimum Instruction Time : 0

Correct Marks : 5 Wrong Marks : 1

Question Key Details :

Key	Value
Comprehension	Comp3

निम्न तालिका पर विचार करें: Watch

idwatch	watch_name	Price	Type	Qty
W001	High_time	10000	Unisex	100
W002	Life_time	15000	Ladies	150
W003	Wave	20000	Gents	200
W004	Golden Time	7000	Unisex	250
W005	High_fashion	25000	Gents	NULL

निम्न क्वेरी व्यक्त होने पर तालिका में परिवर्तन बताए:

update Watch set Qty = Qty+100

Where Type = "Gents"

1. Qty

300

NULL

2. Qty

300

100

3. Qty

200

250

400

450

100

4. Qty

200

250

400

450

NULL

**Options :**

485584148069. 1

485584148070. 2

485584148071. 3

485584148072. 4

Question Number : 324 Question Id : 48558437019 Question Type : MCQ Option Shuffling : No Is Question Mandatory : No Calculator : None Response Time : N.A Think Time : N.A Minimum Instruction Time : 0

Correct Marks : 5 Wrong Marks : 1

Question Key Details :

Key	Value
-----	-------



Consider the following table of: Watch

idwatch	watch_name	Price	Type	Qty
W001	High_time	10000	Unisex	100
W002	Life_time	15000	Ladies	150
W003	Wave	20000	Gents	200
W004	Golden_Time	7000	Unisex	250
W005	High_fashion	25000	Gents	NULL

Choose the correct output when the following query is executed:

```
select watch_name from Watch
```

```
where Qty = "NULL";
```

1. Error
2. No output
3. High\_Fashion
4. High\_Fashion NULL

Options :

485584148073. 1  
 485584148074. 2  
 485584148075. 3  
 485584148076. 4

Question Number : 324 Question Id : 48558437019 Question Type : MCQ Option Shuffling : No Is Question Mandatory : No Calculator : None Response Time : N.A Think Time : N.A Minimum Instruction Time : 0

Correct Marks : 5 Wrong Marks : 1

Question Key Details :

Key	Value
Comprehension	Comp3

निम्न तालिका पर विचार करें: Watch

idwatch	watch_name	Price	Type	Qty
W001	High_time	10000	Unisex	100
W002	Life_time	15000	Ladies	150
W003	Wave	20000	Gents	200
W004	Golden_Time	7000	Unisex	250
W005	High_fashion	25000	Gents	NULL

निम्न क्वेरी निष्पादित होने पर सही आउटपुट चुनिए:

```
select watch_name from Watch
```

```
where Qty = "NULL";
```

1. Error (त्रुटि)
2. No output (कोई आउटपुट नहीं)
3. High\_Fashion
4. High\_Fashion NULL

Options :

485584148073. 1  
485584148074. 2  
485584148075. 3  
485584148076. 4

Question Number : 325 Question Id : 48558437020 Question Type : MCQ Option Shuffling : No Is Question Mandatory : No Calculator : None  
Response Time : N.A Think Time : N.A Minimum Instruction Time : 0  
Correct Marks : 5 Wrong Marks : 1

Question Key Details :

Key	Value
Comprehension	Comp3

Consider the following table of: Watch

idwatch	watch_name	Price	Type	Qty
W001	High_time	10000	Unisex	100
W002	Life_time	15000	Ladies	150
W003	Wave	20000	Gents	200
W004	Golden_Time	7000	Unisex	250
W005	High_fashion	25000	Gents	NULL

Choose the correct answer for the following query:

Select count (Qty) from Watch;

- Count(Qty)  
4
- Count(Qty)  
5
- Count(Qty)  
NULL
- Count(Qty)  
4  
NULL

Options :

485584148077. 1  
485584148078. 2  
485584148079. 3  
485584148080. 4

Question Number : 325 Question Id : 48558437020 Question Type : MCQ Option Shuffling : No Is Question Mandatory : No Calculator : None  
Response Time : N.A Think Time : N.A Minimum Instruction Time : 0  
Correct Marks : 5 Wrong Marks : 1

Question Key Details :

Key	Value
Comprehension	Comp3

निम्न तालिका पर विचार करें: Watch

idwatch	watch_name	Price	Type	Qty
W001	High_time	10000	Unisex	100
W002	Life_time	15000	Ladies	150
W003	Wave	20000	Gents	200
W004	Golden_Time	7000	Unisex	250
W005	High_fashion	25000	Gents	NULL

निम्नलिखित क्वेरी का सही उत्तर चुनिए:

Select count (Qty) from Watch:

1. Count(Qty)  
4
2. Count(Qty)  
5
3. Count(Qty)  
NULL
4. Count(Qty)  
4  
NULL

**Options :**

- 485584148077. 1
- 485584148078. 2
- 485584148079. 3
- 485584148080. 4

Sub-Section Number : 3  
Sub-Section Id : 4855842805  
Question Shuffling Allowed : No  
Is Section Default? : null

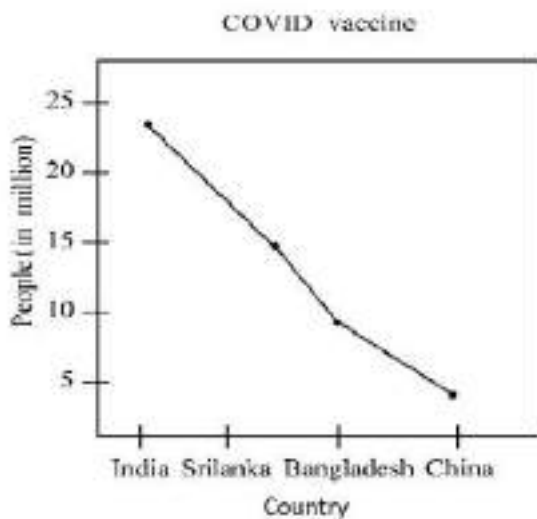
Question Number : 326 Question Id : 48558437021 Question Type : MCQ Option Shuffling : No Is Question Mandatory : No Calculator : None  
Response Time : N.A Think Time : N.A Minimum Instruction Time : 0

Correct Marks : 5 Wrong Marks : 1

**Question Key Details :**

Key	Value
Comprehension	Comp4

Look at the following graph and answer the questions.



Identify the correct import statement to create the graph.

1. pip install matplotlib
2. import matplotlib.pyplot as plt
3. import linegraph
4. import matplotlib.pyplot as plt

Options :

- 485584148081. 1
- 485584148082. 2
- 485584148083. 3
- 485584148084. 4

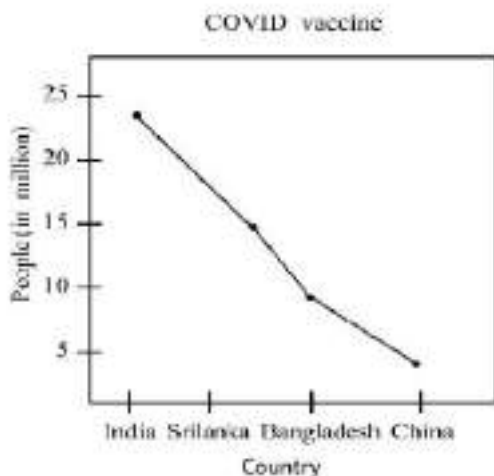
Question Number : 326 Question Id : 48558437021 Question Type : MCQ Option Shuffling : No Is Question Mandatory : No Calculator : None Response Time : N.A Think Time : N.A Minimum Instruction Time : 0

Correct Marks : 5 Wrong Marks : 1

Question Key Details :

Key	Value
Comprehension	Comp4

निम्नलिखित ग्राफ को देखें और प्रश्नों के उत्तर दें।



ग्राफ बनाने के लिए सही इम्पोर्ट कथन की पहचान करें।

1. pip install matplotlib
2. import matplotlib.pyplot as plt
3. import linegraph
4. import matplotlib.pyplot as plt

Options :

- 485584148081. 1
- 485584148082. 2
- 485584148083. 3
- 485584148084. 4

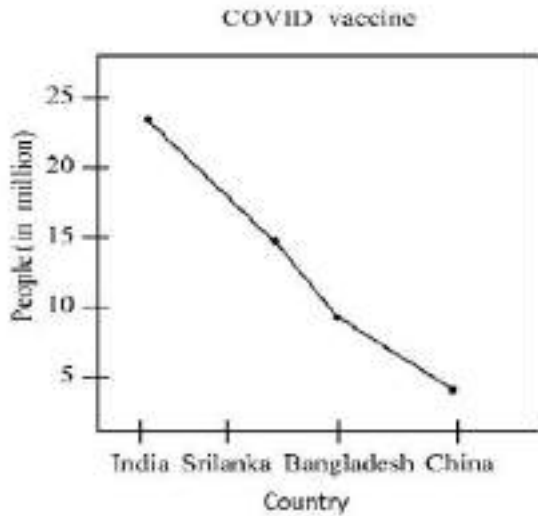
Question Number : 327 Question Id : 48558437022 Question Type : MCQ Option Shuffling : No Is Question Mandatory : No Calculator : None Response Time : N.A Think Time : N.A Minimum Instruction Time : 0

Correct Marks : 5 Wrong Marks : 1

**Question Key Details :**

Key	Value
Comprehension	Comp4

Look at the following graph and answer the questions.



Write code to define the x-axis and y-axis.

1. Country={'India', 'Srilanka', 'Bangladesh', 'China'}  
People = [25, 15, 10, 5]
2. Country=[India, Sri Lanka, Bangladesh, China]  
People = [25, 15, 10, 5]
3. Country=['India', 'Srilanka', 'Bangladesh', 'China']  
People = [25, 15, 10, 5]
4. Country=['India': 25, 'Srilanka': 15, 'Bangladesh': 10, 'China': 5]

**Options :**

- 485584148085. 1
- 485584148086. 2
- 485584148087. 3
- 485584148088. 4

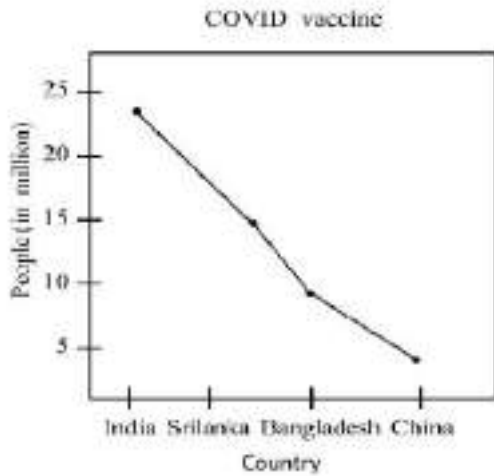
**Question Number : 327 Question Id : 48558437022 Question Type : MCQ Option Shuffling : No Is Question Mandatory : No Calculator : None Response Time : N.A Think Time : N.A Minimum Instruction Time : 0**

**Correct Marks : 5 Wrong Marks : 1**

**Question Key Details :**

Key	Value
Comprehension	Comp4

निम्नलिखित ग्राफ को देखें और प्रश्नों के उत्तर दें।



x-अक्ष और y-अक्ष को परिभाषित करने के लिए कोड लिखें।

- Country={'India', 'Sri Lanka', 'Bangladesh', 'China'}  
People = [25, 15, 10, 5]
- Country=[India, Sri Lanka, Bangladesh, China]  
People = [25, 15, 10, 5]
- Country=[India, 'Sri Lanka', 'Bangladesh', 'China']  
People = [25, 15, 10, 5]
- Country={'India': 25, 'Sri Lanka': 15, 'Bangladesh': 10, 'China': 5}

**Options :**

- 485584148085. 1
- 485584148086. 2
- 485584148087. 3
- 485584148088. 4

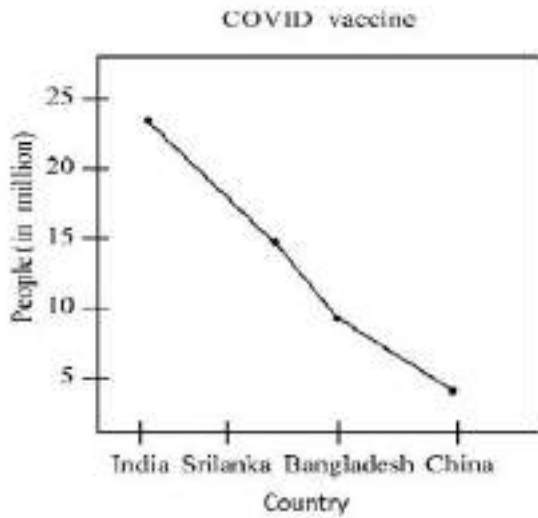
Question Number : 328 Question Id : 48558437023 Question Type : MCQ Option Shuffling : No Is Question Mandatory : No Calculator : None Response Time : N.A Think Time : N.A Minimum Instruction Time : 0

Correct Marks : 5 Wrong Marks : 1

**Question Key Details :**

Key	Value
Comprehension	Comp4

Look at the following graph and answer the questions.



Write code to create the above line graph:

1. `plt.plot(Country, people)`
2. `plot.line(Country, People)`
3. `plt.linegraph(Country, people)`
4. `plt.line('Country', 'People')`

**Options :**

- 485584148089. 1
- 485584148090. 2
- 485584148091. 3
- 485584148092. 4

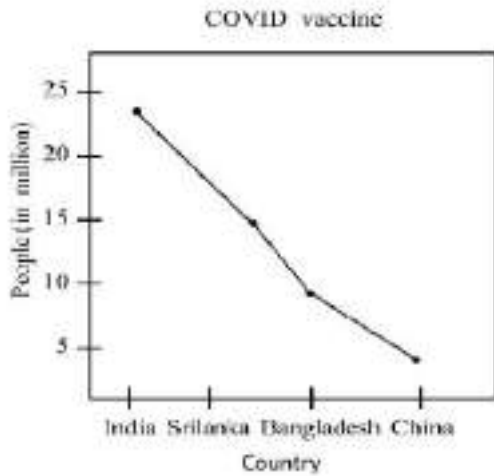
**Question Number : 328 Question Id : 48558437023 Question Type : MCQ Option Shuffling : No Is Question Mandatory : No Calculator : None Response Time : N.A Think Time : N.A Minimum Instruction Time : 0**

**Correct Marks : 5 Wrong Marks : 1**

**Question Key Details :**

Key	Value
Comprehension	Comp4

निम्नलिखित ग्राफ को देखें और प्रश्नों के उत्तर दें।



उपरोक्त लाइन ग्राफ को बनाने के लिए कोड लिखें:

1. `plt.plot(Country, people)`
2. `plot.line(Country, People)`
3. `plt.linegraph(Country, people)`
4. `plt.line('Country', 'People')`

**Options :**

- 485584148089. 1
- 485584148090. 2
- 485584148091. 3
- 485584148092. 4

Question Number : 329 Question Id : 48558437024 Question Type : MCQ Option Shuffling : No Is Question Mandatory : No Calculator : None  
Response Time : N.A Think Time : N.A Minimum Instruction Time : 0

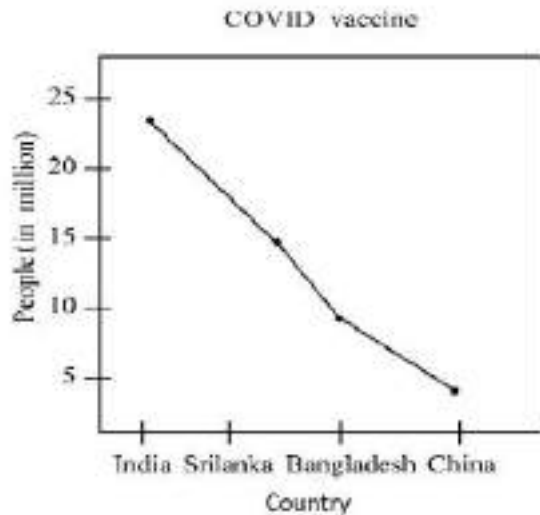
Correct Marks : 5 Wrong Marks : 1

Question Key Details :

Key	Value
Comprehension	Comp4



Look at the following graph and answer the questions.



Identify the correct statement for displaying labels of x-axis and y-axis and to show the graph.

- ```
plt.xaxis('Country')  
plt.yaxis('People')  
plt disp( )
```
- ```
plt.xlabel("Country")  
plt.ylabel("People")  
plt.show( )
```
- ```
plt.xlabel,ylabel('Country', 'People')  
plt.show( )
```
- ```
plt.show('Country', 'People')
```

**Options :**

485584148093. 1  
485584148094. 2  
485584148095. 3  
485584148096. 4

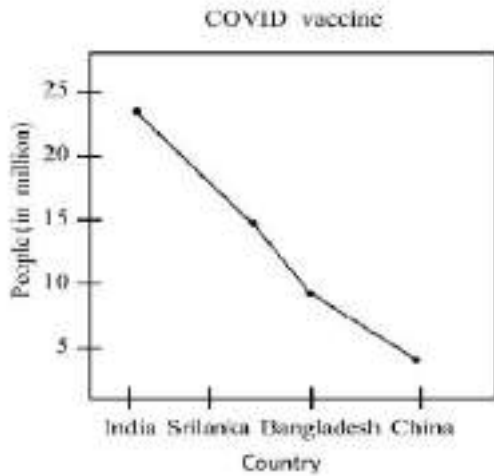
**Question Number : 329 Question Id : 48558437024 Question Type : MCQ Option Shuffling : No Is Question Mandatory : No Calculator : None Response Time : N.A Think Time : N.A Minimum Instruction Time : 0**

**Correct Marks : 5 Wrong Marks : 1**

**Question Key Details :**

Key	Value
Comprehension	Comp4

निम्नलिखित ग्राफ को देखें और प्रश्नों के उत्तर दें।



x-अक्ष और y-अक्ष के लेबल को प्रदर्शित करने और ग्राफ दिखाने के लिए सही कथन की पहचान करें।

1. `plt.xaxis('Country')`  
`plt.yaxis('People')`  
`plt.show()`
2. `plt.xlabel("Country")`  
`plt.ylabel("People")`  
`plt.show()`
3. `plt.xlabel.ylabel('Country', 'People')`  
`plt.show()`
4. `plt.show('Country', 'People')`

**Options :**

- 485584148093. 1
- 485584148094. 2
- 485584148095. 3
- 485584148096. 4

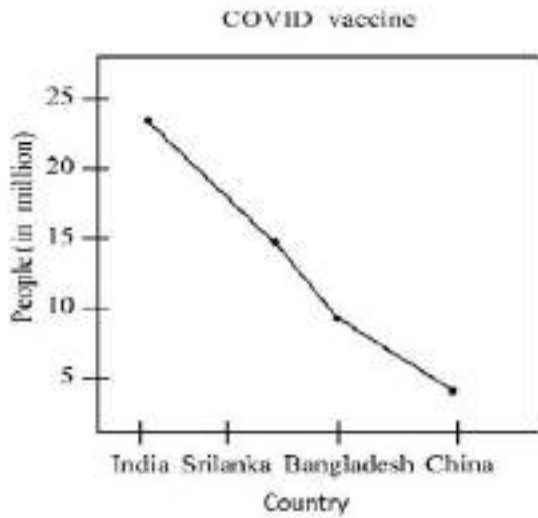
**Question Number : 330 Question Id : 48558437025 Question Type : MCQ Option Shuffling : No Is Question Mandatory : No Calculator : None Response Time : N.A Think Time : N.A Minimum Instruction Time : 0**

**Correct Marks : 5 Wrong Marks : 1**

**Question Key Details :**

Key	Value
Comprehension	Comp4

Look at the following graph and answer the questions.



Identify the correct code to create a bar chart instead of line chart.

1. `plt.bar('Country', 'People')`
2. `plt.barh(['Country'], ['People'])`
3. `plt.bar(Country, People)`
4. `plt.bar(['Country'], ['People'])`

**Options :**

- 485584148097. 1
- 485584148098. 2
- 485584148099. 3
- 485584148100. 4

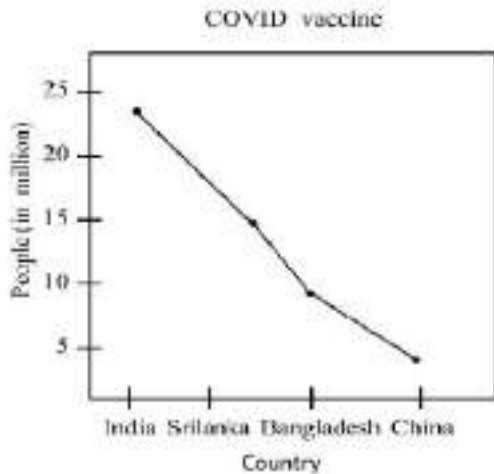
Question Number : 330 Question Id : 48558437025 Question Type : MCQ Option Shuffling : No Is Question Mandatory : No Calculator : None Response Time : N.A Think Time : N.A Minimum Instruction Time : 0

Correct Marks : 5 Wrong Marks : 1

Question Key Details :

Key	Value
Comprehension	Comp4

निम्नलिखित ग्राफ को देखें और प्रश्नों के उत्तर दें।



लाइन चार्ट के बजाए बार चार्ट बनाने के लिए सही कोड की पहचान करें -

1. plt.bar('Country', 'People')
2. plt.barh(['Country'], ['People'])
3. plt.bar(Country, People)
4. plt.bar(['Country'], ['People'])

**Options :**

485584148097. 1  
485584148098. 2  
485584148099. 3  
485584148100. 4

**Sub-Section Number :**

4

**Sub-Section Id :**

4855842806

**Question Shuffling Allowed :**

Yes

**Is Section Default? :**

null

**Question Number : 331 Question Id : 48558437026 Question Type : MCQ Option Shuffling : No Is Question Mandatory : No Calculator : None Response Time : N.A Think Time : N.A Minimum Instruction Time : 0**

**Correct Marks : 5 Wrong Marks : 1**

**Question Key Details :**

Key	Value
Comprehension	MCQ5

Match List I with List II

LIST I		LIST II	
A.	Cyber Crime	I.	Hacking
B.	Person who uses digital technology with internet	II.	Net etiquettes
C.	Unauthorised access to a computer	III.	Netizen
D.	Be polite and precise while surfing the internet	IV.	Ransomware

Choose the correct answer from the options given below:

1. A-II, B-III, C-I, D-IV
2. A-IV, B-III, C-I, D-II
3. A-IV, B-II, C-III, D-I
4. A-IV, B-III, C-II, D-I

Options :

485584148101. 1  
485584148102. 2  
485584148103. 3  
485584148104. 4

Question Number : 331 Question Id : 48558437026 Question Type : MCQ Option Shuffling : No Is Question Mandatory : No Calculator : None Response Time : N.A Think Time : N.A Minimum Instruction Time : 0

Correct Marks : 5 Wrong Marks : 1

Question Key Details :

Key	Value
Comprehension	MCQ5

सूची I का सूची II से मिलान कीजिए

सूची I		सूची II	
A.	साइबर क्राइम	I.	हैकिंग
B.	व्यक्ति जो इंटरनेट के साथ डिजिटल तकनीक का उपयोग करता है।	II.	नेट शिष्टाचार
C.	कम्प्यूटर पर अनधिकृत पहुँच	III.	नेटिजन
D.	इंटरनेट पर सर्फिंग करते समय विनम्र और सटीक रहें	IV.	रेनसमवेयर

निम्नलिखित विकल्पों में से सही उत्तर का चयन कीजिए :

1. A-II, B-III, C-I, D-IV
2. A-IV, B-III, C-I, D-II
3. A-IV, B-II, C-III, D-I
4. A-IV, B-III, C-II, D-I

Options :

485584148101. 1  
485584148102. 2  
485584148103. 3  
485584148104. 4

Question Number : 332 Question Id : 48558437027 Question Type : MCQ Option Shuffling : No Is Question Mandatory : No Calculator : None Response Time : N.A Think Time : N.A Minimum Instruction Time : 0

Correct Marks : 5 Wrong Marks : 1

Question Key Details :

Key	Value
Comprehension	MCQ5

Which of the following is not applicable to Open Source Software?

1. You can download it free of cost
2. You can change the source code as you need
3. You can suggest a change into the software
4. You have to pay if you want to use it

**Options :**

- 485584148105. 1
- 485584148106. 2
- 485584148107. 3
- 485584148108. 4

**Question Number : 332 Question Id : 48558437027 Question Type : MCQ Option Shuffling : No Is Question Mandatory : No Calculator : None Response Time : N.A Think Time : N.A Minimum Instruction Time : 0**

**Correct Marks : 5 Wrong Marks : 1**

**Question Key Details :**

Key	Value
Comprehension	MCQ5

निम्नलिखित में से कौन-सा ओपन सोर्स सॉफ्टवेयर के लिए एप्लीकेशन नहीं है?

1. आप इसे निःशुल्क डाउनलोड कर सकते है
2. आप अपनी जरूरत के अनुसार सोर्स कोड बदल सकते है
3. आप सॉफ्टवेयर में बदलाव का सुझाव दे सकते है
4. यदि आप इसका उपयोग करना चाहते है तो आपको भुगतान करना होगा

**Options :**

- 485584148105. 1
- 485584148106. 2
- 485584148107. 3
- 485584148108. 4

**Question Number : 333 Question Id : 48558437028 Question Type : MCQ Option Shuffling : No Is Question Mandatory : No Calculator : None Response Time : N.A Think Time : N.A Minimum Instruction Time : 0**

**Correct Marks : 5 Wrong Marks : 1**

**Question Key Details :**

Key	Value
Comprehension	MCQ5

Which function is used in Pandas to calculate the mean values of a column.

1. average( )
2. avg( )
3. mean( )
4. calc( )

**Options :**

- 485584148109. 1
- 485584148110. 2
- 485584148111. 3
- 485584148112. 4

Question Number : 333 Question Id : 48558437028 Question Type : MCQ Option Shuffling : No Is Question Mandatory : No Calculator : None  
Response Time : N.A Think Time : N.A Minimum Instruction Time : 0

Correct Marks : 5 Wrong Marks : 1

Question Key Details :

Key	Value
Comprehension	MCQ5

एक कॉलम के माध्य मानों की गणना करने के लिए Pandas (पांडाज) में किस फ़ंक्शन का उपयोग किया जाता है?

1. average( )
2. avg( )
3. mean( )
4. calc( )

Options :

- 485584148109. 1
- 485584148110. 2
- 485584148111. 3
- 485584148112. 4

Question Number : 334 Question Id : 48558437029 Question Type : MCQ Option Shuffling : No Is Question Mandatory : No Calculator : None  
Response Time : N.A Think Time : N.A Minimum Instruction Time : 0

Correct Marks : 5 Wrong Marks : 1

Question Key Details :

Key	Value
Comprehension	MCQ5

Half-Duplex communication is an example of -

1. Data entry in a computer through keyboard
2. Railway track
3. Talking over mobile phone
4. Audio sent to a speaker

Options :

- 485584148113. 1
- 485584148114. 2
- 485584148115. 3
- 485584148116. 4

Question Number : 334 Question Id : 48558437029 Question Type : MCQ Option Shuffling : No Is Question Mandatory : No Calculator : None  
Response Time : N.A Think Time : N.A Minimum Instruction Time : 0

Correct Marks : 5 Wrong Marks : 1

Question Key Details :

Key	Value
Comprehension	MCQ5

हॉफ़-ड्यूप्लेक्स कम्यूनिकेशन एक उदाहरण है .

1. कीबोर्ड के माध्यम से डेटा प्रविष्टि करना
2. रेलवे ट्रैक
3. मोबाइल फोन पर बात करना
4. ऑडियो स्पीकर को भेजना

**Options :**

- 485584148113. 1
- 485584148114. 2
- 485584148115. 3
- 485584148116. 4

Question Number : 335 Question Id : 48558437030 Question Type : MCQ Option Shuffling : No Is Question Mandatory : No Calculator : None  
Response Time : N.A Think Time : N.A Minimum Instruction Time : 0

Correct Marks : 5 Wrong Marks : 1

**Question Key Details :**

Key	Value
Comprehension	MCQ5

Which of the following are threats for network security

- A. White Hat Hacker
- B. Cookies
- C. Eavesdropping
- D. Virus signature
- E. Snooping

Choose the correct answer from the options given below:

- 1. A and D only
- 2. B and D only
- 3. C and E only
- 4. A and B only

**Options :**

- 485584148117. 1
- 485584148118. 2
- 485584148119. 3
- 485584148120. 4

Question Number : 335 Question Id : 48558437030 Question Type : MCQ Option Shuffling : No Is Question Mandatory : No Calculator : None  
Response Time : N.A Think Time : N.A Minimum Instruction Time : 0

Correct Marks : 5 Wrong Marks : 1

**Question Key Details :**

Key	Value
Comprehension	MCQ5

निम्न में से कौन सा नेटवर्क सुरक्षा के लिए खतरा है?

- A. व्हाइट हेट हैकर
- B. कुकीज़
- C. इवेज़ड्रॉपिंग
- D. वायरस सिग्नेचर
- E. स्नूपिंग

नीचे दिए गए विकल्पों में से सही उत्तर का चयन कीजिए.

- 1. केवल A और D
- 2. केवल B और D
- 3. केवल C और E
- 4. केवल A और B

**Options :**



485584148117. 1  
485584148118. 2  
485584148119. 3  
485584148120. 4

## Entrepreneurship

**Group Number :** 7  
**Group Id :** 485584856  
**Group Maximum Duration :** 45  
**Group Minimum Duration :** 45  
**Show Attended Group? :** No  
**Edit Attended Group? :** No  
**Break time :** 0  
**Group Marks :** 200  
**Is this Group for Examiner? :** No  
**Examiner permission :** Cant View  
**Show Progress Bar? :** No

## Entrepreneurship

**Section Id :** 485584986  
**Section Number :** 1  
**Section type :** Online  
**Mandatory or Optional :** Mandatory  
**Number of Questions :** 50  
**Number of Questions to be attempted :** 40  
**Section Marks :** 200  
**Enable Mark as Answered Mark for Review and Clear Response :** Yes  
**Maximum Instruction Time :** 0  
**Sub-Section Number :** 1  
**Sub-Section Id :** 4855842807  
**Question Shuffling Allowed :** Yes  
**Is Section Default? :** null

**Question Number : 336 Question Id : 48558437031 Question Type : MCQ Option Shuffling : No Is Question Mandatory : No Calculator : None  
Response Time : N.A Think Time : N.A Minimum Instruction Time : 0  
Correct Marks : 5 Wrong Marks : 1**

**Question Key Details :**

Key	Value
Comprehension	MCQ

Identify the sequencing of three level channel of distribution.

- A. Agent
- B. Producer
- C. Wholesaler
- D. Retailer
- E. Consumer

Choose the correct answer from the options given below:

- 1. A, B, C, D, E
- 2. B, C, A, D, E
- 3. C, B, A, D, E
- 4. B, A, C, D, E

**Options :**

485584148121. 1  
485584148122. 2

485584148123. 3

485584148124. 4

Question Number : 336 Question Id : 48558437031 Question Type : MCQ Option Shuffling : No Is Question Mandatory : No Calculator : None Response Time : N.A Think Time : N.A Minimum Instruction Time : 0

Correct Marks : 5 Wrong Marks : 1

Question Key Details :

Key	Value
Comprehension	MCQ

वितरण के तीन स्तर चैनल की पहचान करें :

- A. एजेंट
- B. उत्पादक
- C. थोक विक्रेता
- D. खुदरा विक्रेता
- E. उपभोक्ता

नीचे दिए गए विकल्पों में से सही उत्तर दीजिए :

- 1. A, B, C, D, E
- 2. B, C, A, D, E
- 3. C, B, A, D, E
- 4. B, A, C, D, E

Options :

485584148121. 1

485584148122. 2

485584148123. 3

485584148124. 4

Question Number : 337 Question Id : 48558437032 Question Type : MCQ Option Shuffling : No Is Question Mandatory : No Calculator : None Response Time : N.A Think Time : N.A Minimum Instruction Time : 0

Correct Marks : 5 Wrong Marks : 1

Question Key Details :

Key	Value
Comprehension	MCQ

Identification of the target market is tedious. Arrange the following in sequence for identifying the target market.

- A. Develop a marketing plan integrating 4 Ps
- B. Divide the market into smaller groups
- C. Select segment
- D. Deciding what the general market wishes to pursue

Choose the correct answer from the options given below:

- 1. D, B, A, C
- 2. D, C, B, A
- 3. D, B, C, A
- 4. D, A, B, C

Options :

485584148125. 1

485584148126. 2

485584148127. 3

Question Number : 337 Question Id : 48558437032 Question Type : MCQ Option Shuffling : No Is Question Mandatory : No Calculator : None  
Response Time : N.A Think Time : N.A Minimum Instruction Time : 0  
Correct Marks : 5 Wrong Marks : 1

Question Key Details :

Key	Value
Comprehension	MCQ

लक्षित बाजार की पहचान के सोपान निम्नलिखित हैं। लक्षित बाजार पहचान करने के लिए निम्नलिखित सोपानों को अनुक्रम में व्यवस्थित करें।

- 4 Ps को सम्मिलित करके विपणन योजना का निर्माण
- बाजार को छोटे समूहों में विभाजित करें
- खण्ड का चयन
- सामान्य बाजार की आकांक्षाओं के बारे में निर्णय करना

नीचे दिए गए विकल्पों में से सही उत्तर दीजिए :

- D, B, A, C
- D, C, B, A
- D, B, C, A
- D, A, B, C

Options :

485584148125. 1  
485584148126. 2  
485584148127. 3  
485584148128. 4

Question Number : 338 Question Id : 48558437033 Question Type : MCQ Option Shuffling : No Is Question Mandatory : No Calculator : None  
Response Time : N.A Think Time : N.A Minimum Instruction Time : 0  
Correct Marks : 5 Wrong Marks : 1

Question Key Details :

Key	Value
Comprehension	MCQ

Arrange the following steps in creativity process sequentially.

- Verification
- Assimilation of information
- Stage of new idea
- Illumination
- Preparation

Choose the correct answer from the options given below:

- C, E, B, D, A
- C, E, D, B, A
- C, E, D, A, B
- C, E, A, D, B

Options :

485584148129. 1  
485584148130. 2  
485584148131. 3  
485584148132. 4

Question Number : 338 Question Id : 48558437033 Question Type : MCQ Option Shuffling : No Is Question Mandatory : No Calculator : None Response Time : N.A Think Time : N.A Minimum Instruction Time : 0

Correct Marks : 5 Wrong Marks : 1

Question Key Details :

Key	Value
Comprehension	MCQ

सृजनात्मक प्रक्रिया के निम्नलिखित सोपानों को अनुक्रम स्र व्यवस्थित करें :

- सत्यापन
- सूचना का आत्मसातीकरण
- नए विचार के चरण सोपान
- प्रदीप्ति प्रकाश प्रस्फुटन
- तेयारी

नीचे दिए गए विकल्पों में से सही उत्तर दीजिए :

- C, E, B, D, A
- C, E, D, B, A
- C, E, D, A, B
- C, E, A, D, B

Options :

485584148129. 1  
485584148130. 2  
485584148131. 3  
485584148132. 4

Question Number : 339 Question Id : 48558437034 Question Type : MCQ Option Shuffling : No Is Question Mandatory : No Calculator : None Response Time : N.A Think Time : N.A Minimum Instruction Time : 0

Correct Marks : 5 Wrong Marks : 1

Question Key Details :

Key	Value
Comprehension	MCQ

Match List I with List II

LIST I		LIST II	
A.	Financial strength	I.	Product related sector
B.	Buying quality	II.	Company related sector
C.	Technical nature	III.	Government related sector
D.	Law passed by court	IV.	Market related sector

Choose the correct answer from the options given below:

- A-II, B-I, C-IV, D-III
- A-II, B-IV, C-I, D-III
- A-II, B-IV, C-III, D-I
- A-III, B-I, C-IV, D-II

Options :

485584148133. 1  
485584148134. 2  
485584148135. 3  
485584148136. 4

Question Number : 339 Question Id : 48558437034 Question Type : MCQ Option Shuffling : No Is Question Mandatory : No Calculator : None Response Time : N.A Think Time : N.A Minimum Instruction Time : 0

Correct Marks : 5 Wrong Marks : 1

Question Key Details :

Key	Value
Comprehension	MCQ

सूची I का सूची II से मिलान कीजिए

सूची I		सूची II	
A.	वित्तीय क्षमता	I.	उत्पाद संबंधित कारक
B.	क्रय मात्रा	II.	कंपनी संबंधित कारक
C.	तकनीकी प्रकृति	III.	सरकार संबंधित कारक
D.	न्यायालय द्वारा पारित विधि	IV.	बाजार संबंधित कारक

निम्नलिखित विकल्पों में से सही उत्तर का चयन कीजिए :

1. A-II, B-I, C-IV, D-III
2. A-II, B-IV, C-I, D-III
3. A-II, B-IV, C-III, D-I
4. A-III, B-I, C-IV, D-II

Options :

485584148133. 1  
485584148134. 2  
485584148135. 3  
485584148136. 4

Question Number : 340 Question Id : 48558437035 Question Type : MCQ Option Shuffling : No Is Question Mandatory : No Calculator : None Response Time : N.A Think Time : N.A Minimum Instruction Time : 0

Correct Marks : 5 Wrong Marks : 1

Question Key Details :

Key	Value
Comprehension	MCQ

Match List I with List II

LIST I		LIST II	
Types of Acquisition		Meaning	
A.	Friendly acquisition	I.	Entire process is done by force
B.	Hostile acquisition	II.	The purchasing company becomes subsidiary of purchased company
C.	Reverse acquisition	III.	There is no forceful acquisition
D.	Back flip acquisition	IV.	A private company take over a public company

Choose the correct answer from the options given below:

1. A-II, B-III, C-IV, D-I
2. A-I, B-II, C-III, D-IV
3. A-III, B-I, C-II, D-IV
4. A-III, B-I, C-IV, D-II

Options :

485584148137. 1  
485584148138. 2  
485584148139. 3  
485584148140. 4

Question Number : 340 Question Id : 48558437035 Question Type : MCQ Option Shuffling : No Is Question Mandatory : No Calculator : None Response Time : N.A Think Time : N.A Minimum Instruction Time : 0

Correct Marks : 5 Wrong Marks : 1

Question Key Details :

Key	Value
Comprehension	MCQ

सूची I का सूची II से मिलान कीजिए

सूची I		सूची II	
अर्जन/अधिग्रहण का प्रकार		अर्थ	
A.	मिश्रतापूर्ण अधिग्रहण	I.	सम्पूर्ण प्रक्रिया बल द्वारा की जाती है
B.	शत्रुतापूर्ण अधिग्रहण	II.	खरीदने वाली कंपनी, खरीदी गई कंपनी की अनुषंगी बन जाती है
C.	विलोम अधिग्रहण	III.	कोई बलपूर्वक अधिग्रहण नहीं
D.	पञ्च पित्तप अधिग्रहण	IV.	एक निजी कंपनी किसी सरकारी कंपनी का अधिग्रहण करती है

निम्नलिखित विकल्पों में से सही उत्तर का चयन कीजिए :

1. A-II, B-III, C-IV, D-I

2. A-I, B-II, C-III, D-IV

3. A-III, B-I, C-II, D-IV

4. A-III, B-I, C-IV, D-II

Options :

485584148137. 1

485584148138. 2

485584148139. 3

485584148140. 4

Question Number : 341 Question Id : 48558437036 Question Type : MCQ Option Shuffling : No Is Question Mandatory : No Calculator : None Response Time : N.A Think Time : N.A Minimum Instruction Time : 0

Correct Marks : 5 Wrong Marks : 1

Question Key Details :

Key	Value
Comprehension	MCQ

Match List I with List II

LIST I		LIST II	
Terms		Definitions	
A.	Franchising	I.	One entity gets absorbed into another
B.	Internal Expansion	II.	Two entities combine together and form a new company
C.	Amalgamation	III.	An owner of a trade market product or service gives exclusive rights of local distribution to independent retailers in return for royalty
D.	Absorption	IV.	Increasing production capacity and production units or broadening capital structure

Choose the correct answer from the options given below:

1. A-III, B-IV, C-I, D-II
2. A-III, B-IV, C-II, D-I
3. A-I, B-IV, C-II, D-III
4. A-I, B-II, C-IV, D-III

Options :

485584148141. 1  
485584148142. 2  
485584148143. 3  
485584148144. 4

Question Number : 341 Question Id : 48558437036 Question Type : MCQ Option Shuffling : No Is Question Mandatory : No Calculator : None Response Time : N.A Think Time : N.A Minimum Instruction Time : 0

Correct Marks : 5 Wrong Marks : 1

Question Key Details :

Key	Value
Comprehension	MCQ

सूची I का सूची II से मिलान कीजिए

सूची I		सूची II	
A.	फ्रेंचाइजी	I.	एक निकाय का दूसरे में विलय होता है
B.	आंतरिक विस्तार	II.	दो निकाय संयुक्त होकर एक नई कंपनी बनाते हैं
C.	आमेलन	III.	किसी ट्रेडमार्क उत्पाद या सेवा का स्वामी रॉयल्टी के बदले स्थानीय वितरण के अधिकार स्वतंत्र रिटेलरों को देता है
D.	विलय	IV.	उत्पादन क्षमता और उत्पादन इकाइयाँ बढ़ाना या पूंजी संरचना विस्तृत करना

निम्नलिखित विकल्पों में से सही उत्तर का चयन कीजिए :

1. A-III, B-IV, C-I, D-II
2. A-III, B-IV, C-II, D-I
3. A-I, B-IV, C-II, D-III
4. A-I, B-II, C-IV, D-III

Options :

485584148141. 1  
485584148142. 2  
485584148143. 3  
485584148144. 4

Question Number : 342 Question Id : 48558437037 Question Type : MCQ Option Shuffling : No Is Question Mandatory : No Calculator : None Response Time : N.A Think Time : N.A Minimum Instruction Time : 0

Correct Marks : 5 Wrong Marks : 1

Question Key Details :

Key	Value
Comprehension	MCQ

Which is/are not current liability/liabilities?

- A. Cash
- B. Bank
- C. Creditors
- D. Debtors
- E. Expenses prepaid

Choose the correct answer from the options given below:

1. A, B and C only
2. A, B, D and E only
3. B, D and E only
4. B, C, D, E only

Options :

- 485584148145. 1
- 485584148146. 2
- 485584148147. 3
- 485584148148. 4

Question Number : 342 Question Id : 48558437037 Question Type : MCQ Option Shuffling : No Is Question Mandatory : No Calculator : None Response Time : N.A Think Time : N.A Minimum Instruction Time : 0

Correct Marks : 5 Wrong Marks : 1

Question Key Details :

Key	Value
Comprehension	MCQ

निम्नलिखित में से कौन-सी चालू देयताएँ नहीं हैं?

- A. नकद
- B. बैंक
- C. ऋण प्रदाता
- D. कर्जदार
- E. पूर्व प्रदत्त व्यय

नीचे दिए गए विकल्पों में से सही उत्तर दीजिए :

1. केवल A, B और C
2. केवल A, B, D और E
3. केवल B, D और E
4. केवल B, C, D और E

Options :

- 485584148145. 1
- 485584148146. 2
- 485584148147. 3
- 485584148148. 4



Question Number : 343 Question Id : 48558437038 Question Type : MCQ Option Shuffling : No Is Question Mandatory : No Calculator : None Response Time : N.A Think Time : N.A Minimum Instruction Time : 0

Correct Marks : 5 Wrong Marks : 1

Question Key Details :

Key	Value
Comprehension	MCQ

Which of the following are NOT the advantages of franchising?

- A. Quick expansion of the market for the franchising
- B. Easy product acceptance by the people
- C. Structural and operating controls are under control of the franchisor leading to standardization
- D. Risk of franchisor getting bought by other company
- E. Franchise fee and royalties leads to dilution of earnings of franchisor

Choose the correct answer from the options given below:

- 1. C and D only
- 2. D and E only
- 3. A, D and E only
- 4. A, B and E only

Options :

- 485584148149. 1
- 485584148150. 2
- 485584148151. 3
- 485584148152. 4

Question Number : 343 Question Id : 48558437038 Question Type : MCQ Option Shuffling : No Is Question Mandatory : No Calculator : None Response Time : N.A Think Time : N.A Minimum Instruction Time : 0

Correct Marks : 5 Wrong Marks : 1

Question Key Details :

Key	Value
Comprehension	MCQ

निम्नलिखित में से कौन-से फ्रेंचाइजी के लाभ नहीं हैं?

- A. फ्रेंचाइजी प्रदाता के लिए बाजार का त्वरित विस्तार
- B. जनता द्वारा आसान उत्पाद स्वीकार्यता
- C. संरचनात्मक और प्रचालनात्मक नियंत्रण फ्रेंचाइजी प्रदाता के पास होते हैं जिससे मानकीकरण बना रहता है।
- D. अन्य कंपनी द्वारा फ्रेंचाइजी प्रदाता को खरीदे जाने का जोखिम
- E. फ्रेंचाइजी शुल्क और रॉयल्टी से फ्रेंचाइजी प्रदाता की आय में कमी होती है।

नीचे दिए गए विकल्पों में से सही उत्तर दीजिए :

- 1. केवल C और D
- 2. केवल D और E
- 3. केवल A, D और E
- 4. केवल A, B और E

Options :

- 485584148149. 1
- 485584148150. 2
- 485584148151. 3
- 485584148152. 4

Question Number : 344 Question Id : 48558437039 Question Type : MCQ Option Shuffling : No Is Question Mandatory : No Calculator : None Response Time : N.A Think Time : N.A Minimum Instruction Time : 0

Correct Marks : 5 Wrong Marks : 1

Question Key Details :

Key	Value
Comprehension	MCQ

Select the option that enlists the forms of business organisation(s) where personal assets of owners can be used to pay business debts.

- A. Public limited company
- B. Private limited company
- C. Partnership
- D. Sole proprietorship

Choose the correct answer from the options given below:

- 1. C, D only
- 2. A, B only
- 3. B, C, D only
- 4. A, B, C, D only

Options :

- 485584148153. 1
- 485584148154. 2
- 485584148155. 3
- 485584148156. 4

Question Number : 344 Question Id : 48558437039 Question Type : MCQ Option Shuffling : No Is Question Mandatory : No Calculator : None Response Time : N.A Think Time : N.A Minimum Instruction Time : 0

Correct Marks : 5 Wrong Marks : 1

Question Key Details :

Key	Value
Comprehension	MCQ

उस विकल्प का चयन करें जो व्यवसाय संगठनों के उन रूपों को सूचीबद्ध करता है जिसके द्वारा व्यवसाय कर्ज का भुगतान करने के लिए मालिक की व्यक्तिगत आस्तियों का प्रयोग किया जा सकता है।

- A. पब्लिक लिमिटेड कंपनी
- B. प्राइवेट लिमिटेड कंपनी
- C. साझेदारी
- D. एकमात्र प्रोप्राइटरशिप

नीचे दिए गए विकल्पों में से सही उत्तर दीजिए :

- 1. केवल C और D
- 2. केवल A और B
- 3. केवल B, C और D
- 4. केवल A, B, C और D

Options :

- 485584148153. 1
- 485584148154. 2
- 485584148155. 3
- 485584148156. 4

Question Number : 345 Question Id : 48558437040 Question Type : MCQ Option Shuffling : No Is Question Mandatory : No Calculator : None Response Time : N.A Think Time : N.A Minimum Instruction Time : 0

Correct Marks : 5 Wrong Marks : 1

Question Key Details :

Key	Value
Comprehension	MCQ

Which in the following is the objective of advertising strategy?

- A. Create goodwill and build favourable image
- B. Educate the public
- C. Attract customers
- D. Offer specific products or services
- E. Make business and product name familiar to the public

Choose the correct answer from the options given below:

1. A, B, C, D only
2. A, B, C, D, E only
3. A and E only
4. B, C, D only

Options :

- 485584148157. 1
- 485584148158. 2
- 485584148159. 3
- 485584148160. 4

Question Number : 345 Question Id : 48558437040 Question Type : MCQ Option Shuffling : No Is Question Mandatory : No Calculator : None Response Time : N.A Think Time : N.A Minimum Instruction Time : 0

Correct Marks : 5 Wrong Marks : 1

Question Key Details :

Key	Value
Comprehension	MCQ

निम्नलिखित में से कौन-से विज्ञापन रणनीति के उद्देश्य हैं:

- A. साख बनाना और अनुकूल छवि निर्माण
- B. लोगों को शिक्षित करना
- C. ग्राहकों को आकर्षित करना
- D. विशिष्ट उत्पाद या सेवाएं प्रस्तावित करना
- E. व्यवसाय और उत्पाद का नाम जनता में प्रचलित करना

नीचे दिए गए विकल्पों में से सही उत्तर दीजिए :

1. केवल A, B, C और D
2. केवल A, B, C, D और E
3. केवल A और E
4. केवल B, C और D

Options :

- 485584148157. 1
- 485584148158. 2
- 485584148159. 3
- 485584148160. 4

Question Number : 346 Question Id : 48558437041 Question Type : MCQ Option Shuffling : No Is Question Mandatory : No Calculator : None  
Response Time : N.A Think Time : N.A Minimum Instruction Time : 0

Correct Marks : 5 Wrong Marks : 1

Question Key Details :

Key	Value
Comprehension	MCQ

\_\_\_\_\_ is the method of raising additional finance from the existing shareholders by offering securities to them on pro-rata basis.

1. Bonus issue
2. Private placement
3. Public Issue
4. Rights Issue

Options :

- 485584148161. 1
- 485584148162. 2
- 485584148163. 3
- 485584148164. 4

Question Number : 346 Question Id : 48558437041 Question Type : MCQ Option Shuffling : No Is Question Mandatory : No Calculator : None  
Response Time : N.A Think Time : N.A Minimum Instruction Time : 0

Correct Marks : 5 Wrong Marks : 1

Question Key Details :

Key	Value
Comprehension	MCQ

\_\_\_\_\_ प्रो-राटा आधार पर प्रतिभूतियाँ प्रस्तावित करके वर्तमान अंशधारकों से अतिरिक्त वित्त जुटाने की विधि है।

1. बोनस निर्गम
2. निजी संस्थापन
3. सार्वजनिक निर्गम
4. राइट्स निर्गम

Options :

- 485584148161. 1
- 485584148162. 2
- 485584148163. 3
- 485584148164. 4

Question Number : 347 Question Id : 48558437042 Question Type : MCQ Option Shuffling : No Is Question Mandatory : No Calculator : None  
Response Time : N.A Think Time : N.A Minimum Instruction Time : 0

Correct Marks : 5 Wrong Marks : 1

Question Key Details :

Key	Value
Comprehension	MCQ

If Stock = ₹10,000  
Debtors = ₹15,000

Trade Crediton = ₹4,000

Net working capital will be:

1. ₹20,000
2. ₹21,000
3. ₹24,000
4. ₹25,000

**Options :**

485584148165. 1  
485584148166. 2  
485584148167. 3  
485584148168. 4

**Question Number : 347 Question Id : 48558437042 Question Type : MCQ Option Shuffling : No Is Question Mandatory : No Calculator : None Response Time : N.A Think Time : N.A Minimum Instruction Time : 0**

**Correct Marks : 5 Wrong Marks : 1**

**Question Key Details :**

Key	Value
Comprehension	MCQ

यदि स्टॉक = ₹10,000  
कर्जदार = ₹15,000

व्यापार = ₹4,000

निवल कार्यशील पूँजी होगी :

1. ₹20,000
2. ₹21,000
3. ₹24,000
4. ₹25,000

**Options :**

485584148165. 1  
485584148166. 2  
485584148167. 3  
485584148168. 4

**Question Number : 348 Question Id : 48558437043 Question Type : MCQ Option Shuffling : No Is Question Mandatory : No Calculator : None Response Time : N.A Think Time : N.A Minimum Instruction Time : 0**

**Correct Marks : 5 Wrong Marks : 1**

**Question Key Details :**

Key	Value
Comprehension	MCQ

Annual number of boxes sold by a shopkeeper is 1,200 at the rate of Rs. 100/- per month. Cost of placing an order and receiving material is Rs. 500/- per order. Inventory holding cost is Rs. 30/- per annum. What is the economic order quantity for the shopkeeper?

1. 200
2. 100
3. 400
4. 500

**Options :**

485584148169. 1  
485584148170. 2  
485584148171. 3  
485584148172. 4

**Question Number : 348 Question Id : 48558437043 Question Type : MCQ Option Shuffling : No Is Question Mandatory : No Calculator : None Response Time : N.A Think Time : N.A Minimum Instruction Time : 0**

**Correct Marks : 5 Wrong Marks : 1**

**Question Key Details :**

Key	Value
Comprehension	MCQ

किसी दुकानदार द्वारा 100 रुपए प्रतिमाह की दर से बेचे गए बक्सों की संख्या 1200 है। आदेश देने और सामग्री प्राप्त करने की लागत प्रति आदेश 500 रुपए है। इनवेंट्री धारण लागत 30 रुपए वार्षिक है। दुकानदार के लिए व्यवहार्य आदेश मात्रा क्या है?

1. 200
2. 100
3. 400
4. 500

**Options :**

485584148169. 1  
485584148170. 2  
485584148171. 3  
485584148172. 4

**Question Number : 349 Question Id : 48558437044 Question Type : MCQ Option Shuffling : No Is Question Mandatory : No Calculator : None Response Time : N.A Think Time : N.A Minimum Instruction Time : 0**

**Correct Marks : 5 Wrong Marks : 1**

**Question Key Details :**

Key	Value
Comprehension	MCQ

Which of the following is assumption of sales mix break even point

1. Sales mix can be changed
2. Selling price per unit, variable cost per unit and total fixed cost are constant
3. More than half production should be sold
4. All cost should be combined

**Options :**

485584148173. 1  
485584148174. 2

485584148175. 3  
485584148176. 4

Question Number : 349 Question Id : 48558437044 Question Type : MCQ Option Shuffling : No Is Question Mandatory : No Calculator : None  
Response Time : N.A Think Time : N.A Minimum Instruction Time : 0

Correct Marks : 5 Wrong Marks : 1

Question Key Details :

Key	Value
Comprehension	MCQ

निम्नलिखित में से बिक्री मिश्रण लाभ-अलाभ बिंदु की पूर्वधारणा क्या है.

1. बिक्री मिश्रण बदला जा सकता है
2. प्रति इकाई बिक्री मूल्य, प्रति इकाई चर लागत और कुल नियत लागत स्थिर हैं
3. आधे से अधिक उत्पादन बेचा जाएगा
4. सारी लागत संयोजित की जानी चाहिए

Options :

485584148173. 1  
485584148174. 2  
485584148175. 3  
485584148176. 4

Question Number : 350 Question Id : 48558437045 Question Type : MCQ Option Shuffling : No Is Question Mandatory : No Calculator : None  
Response Time : N.A Think Time : N.A Minimum Instruction Time : 0

Correct Marks : 5 Wrong Marks : 1

Question Key Details :

Key	Value
Comprehension	MCQ

Full form of EBITDA is

1. Earning before investment, tax, depreciation and amortization
2. Earning before interest, tax, dividend and amortization
3. Earning before interest, tax, depreciation and amortization
4. Earning before investment, tax, dividend and amortization

Options :

485584148177. 1  
485584148178. 2  
485584148179. 3  
485584148180. 4

Question Number : 350 Question Id : 48558437045 Question Type : MCQ Option Shuffling : No Is Question Mandatory : No Calculator : None  
Response Time : N.A Think Time : N.A Minimum Instruction Time : 0

Correct Marks : 5 Wrong Marks : 1

Question Key Details :

Key	Value
Comprehension	MCQ

EBITDA का पूरा नाम है :

1. निवेश, कर, मूल्य ह्रास और गिरवीकरण से पूर्व आय
2. ब्याज, कर, लाभांश और गिरवीकरण से पूर्व आय
3. ब्याज, कर, मूल्य ह्रास और गिरवीकरण से पूर्व आय
4. निवेश, कर, लाभांश और गिरवीकरण से पूर्व आय

**Options :**

485584148177. 1  
485584148178. 2  
485584148179. 3  
485584148180. 4

**Question Number : 351 Question Id : 48558437046 Question Type : MCQ Option Shuffling : No Is Question Mandatory : No Calculator : None Response Time : N.A Think Time : N.A Minimum Instruction Time : 0**

**Correct Marks : 5 Wrong Marks : 1**

**Question Key Details :**

Key	Value
Comprehension	MCQ

Advertisement, direct selling, sales promotion, these all are the parts of which Ps of the market mix?

1. Product
2. Promotion
3. Place
4. Physical evidence

**Options :**

485584148181. 1  
485584148182. 2  
485584148183. 3  
485584148184. 4

**Question Number : 351 Question Id : 48558437046 Question Type : MCQ Option Shuffling : No Is Question Mandatory : No Calculator : None Response Time : N.A Think Time : N.A Minimum Instruction Time : 0**

**Correct Marks : 5 Wrong Marks : 1**

**Question Key Details :**

Key	Value
Comprehension	MCQ

विज्ञापन, प्रत्यक्ष बिक्री, बिक्री प्रोत्साहन आदि बाजार मिश्रण के निम्नलिखित में से किस P के भाग हैं?

1. उत्पाद
2. प्रोत्साहन
3. स्थान
4. भौतिक साक्ष्य

**Options :**

485584148181. 1  
485584148182. 2  
485584148183. 3  
485584148184. 4



Question Number : 352 Question Id : 48558437047 Question Type : MCQ Option Shuffling : No Is Question Mandatory : No Calculator : None  
Response Time : N.A Think Time : N.A Minimum Instruction Time : 0

Correct Marks : 5 Wrong Marks : 1

Question Key Details :

Key	Value
Comprehension	MCQ

Suggest the appropriate method of pricing for real estate market.

1. Cost plus pricing
2. Penetration pricing
3. Skimming pricing
4. Variable price method

Options :

485584148185. 1

485584148186. 2

485584148187. 3

485584148188. 4

Question Number : 352 Question Id : 48558437047 Question Type : MCQ Option Shuffling : No Is Question Mandatory : No Calculator : None  
Response Time : N.A Think Time : N.A Minimum Instruction Time : 0

Correct Marks : 5 Wrong Marks : 1

Question Key Details :

Key	Value
Comprehension	MCQ

परिसंपत्ति बाजार के लिए मूल्यन की समुचित विधि सुझाए :

1. लागत योग मूल्यन
2. अंतर्बंधन मूल्यन
3. स्कीमिंग मूल्यन
4. चर मूल्य विधि

Options :

485584148185. 1

485584148186. 2

485584148187. 3

485584148188. 4

Question Number : 353 Question Id : 48558437048 Question Type : MCQ Option Shuffling : No Is Question Mandatory : No Calculator : None  
Response Time : N.A Think Time : N.A Minimum Instruction Time : 0

Correct Marks : 5 Wrong Marks : 1

Question Key Details :

Key	Value
Comprehension	MCQ

Which form of advertising is more suitable for image building, information dissemination and sales campaigns?

1. Radio
2. Television
3. Press Advertising
4. Ambient

**Options :**

- 485584148189. 1
- 485584148190. 2
- 485584148191. 3
- 485584148192. 4

**Question Number : 353 Question Id : 48558437048 Question Type : MCQ Option Shuffling : No Is Question Mandatory : No Calculator : None Response Time : N.A Think Time : N.A Minimum Instruction Time : 0**

**Correct Marks : 5 Wrong Marks : 1**

**Question Key Details :**

Key	Value
Comprehension	MCQ

छवि निर्माण, सूचना प्रसारण और बिक्री अभियानों के लिए विज्ञापन का कौन-सा रूप अधिक उचित है?

1. रेडियो
2. टेलीविजन
3. प्रेस विज्ञापन
4. बाहरी/आउटडोर विज्ञापन

**Options :**

- 485584148189. 1
- 485584148190. 2
- 485584148191. 3
- 485584148192. 4

**Question Number : 354 Question Id : 48558437049 Question Type : MCQ Option Shuffling : No Is Question Mandatory : No Calculator : None Response Time : N.A Think Time : N.A Minimum Instruction Time : 0**

**Correct Marks : 5 Wrong Marks : 1**

**Question Key Details :**

Key	Value
Comprehension	MCQ

Identify the rules of advertising?

1. Attention, Target, Media, Competitors
2. Aim, Target, Media, Competitors
3. Aim, Interest, Desire, Action
4. Attention, Interest, Desire, Action

**Options :**

- 485584148193. 1
- 485584148194. 2
- 485584148195. 3
- 485584148196. 4

Question Number : 354 Question Id : 48558437049 Question Type : MCQ Option Shuffling : No Is Question Mandatory : No Calculator : None  
Response Time : N.A Think Time : N.A Minimum Instruction Time : 0

Correct Marks : 5 Wrong Marks : 1

Question Key Details :

Key	Value
Comprehension	MCQ

विज्ञापन के नियमों की पहचान करें?

1. ध्यान, लक्ष्य, मीडिया, प्रतिस्पर्धी
2. उद्देश्य, लक्ष्य, मीडिया, प्रतिस्पर्धी
3. उद्देश्य, लक्ष्य, आकांक्षा, कार्रवाई
4. ध्यान, रुचि, आकांक्षा, कार्रवाई

Options :

485584148193. 1

485584148194. 2

485584148195. 3

485584148196. 4

Question Number : 355 Question Id : 48558437050 Question Type : MCQ Option Shuffling : No Is Question Mandatory : No Calculator : None  
Response Time : N.A Think Time : N.A Minimum Instruction Time : 0

Correct Marks : 5 Wrong Marks : 1

Question Key Details :

Key	Value
Comprehension	MCQ

With the technological development and increased infrastructure and communication network 'online' is a favourite way of promotion. In which category it will fall:

1. Above the line promotion strategy
2. Below the line promotion strategy
3. Public relations
4. Personal Selling

Options :

485584148197. 1

485584148198. 2

485584148199. 3

485584148200. 4

Question Number : 355 Question Id : 48558437050 Question Type : MCQ Option Shuffling : No Is Question Mandatory : No Calculator : None  
Response Time : N.A Think Time : N.A Minimum Instruction Time : 0

Correct Marks : 5 Wrong Marks : 1

Question Key Details :

Key	Value
Comprehension	MCQ

तकनीकी विकास, विकसित अवसंरचना और संचार नेटवर्क के कारण ऑनलाइन प्रचार की एक श्रेयस्कर विधि है। यह किस श्रेणी में आएगा-

1. रेखा से ऊपर प्रचार रणनीति
2. रेखा से नीचे प्रचार रणनीति
3. जन संपर्क
4. व्यक्तिगत बिक्री

**Options :**

- 485584148197. 1
- 485584148198. 2
- 485584148199. 3
- 485584148200. 4

**Question Number : 356 Question Id : 48558437051 Question Type : MCQ Option Shuffling : No Is Question Mandatory : No Calculator : None Response Time : N.A Think Time : N.A Minimum Instruction Time : 0**

**Correct Marks : 5 Wrong Marks : 1**

**Question Key Details :**

Key	Value
Comprehension	MCQ

Identify the part of a brand which is non-utterable.

1. Trade mark
2. Brand mark
3. Brand name
4. Branding

**Options :**

- 485584148201. 1
- 485584148202. 2
- 485584148203. 3
- 485584148204. 4

**Question Number : 356 Question Id : 48558437051 Question Type : MCQ Option Shuffling : No Is Question Mandatory : No Calculator : None Response Time : N.A Think Time : N.A Minimum Instruction Time : 0**

**Correct Marks : 5 Wrong Marks : 1**

**Question Key Details :**

Key	Value
Comprehension	MCQ

ब्रांड के उस भाग की पहचान करें जिसका उच्चारण नहीं किया जा सकता है:

1. ट्रेड मार्क
2. ब्रांड मार्क
3. ब्रांड नेम
4. ब्रांडिंग

**Options :**

- 485584148201. 1
- 485584148202. 2
- 485584148203. 3
- 485584148204. 4

Question Number : 357 Question Id : 48558437052 Question Type : MCQ Option Shuffling : No Is Question Mandatory : No Calculator : None Response Time : N.A Think Time : N.A Minimum Instruction Time : 0

Correct Marks : 5 Wrong Marks : 1

Question Key Details :

Key	Value
Comprehension	MCQ

Nestle launched small sachets of coffee Nescafe and other products realising the easiness to carry them and storing them. this increased the sale of the firm as the customer's wants were fulfilled. Identify the importance of environmental scanning in above statement.

1. Early warning signals
2. Customer focus
3. Strategy formulation
4. Public image

Options :

485584148205. 1  
485584148206. 2  
485584148207. 3  
485584148208. 4

Question Number : 357 Question Id : 48558437052 Question Type : MCQ Option Shuffling : No Is Question Mandatory : No Calculator : None Response Time : N.A Think Time : N.A Minimum Instruction Time : 0

Correct Marks : 5 Wrong Marks : 1

Question Key Details :

Key	Value
Comprehension	MCQ

नेस्ले ने आसान परिवहन और भंडारण को ध्यान में रखकर नेस्केफे कॉफी और अन्य उत्पादों के छोटे पैकेट लांच किए। इससे कंपनी की बिक्री बढ़ी क्योंकि प्रयोक्ताओं की आकांक्षा पूरी हुई। उपरोक्त कथन में पर्यावरणीय पर्यवेक्षण की महत्ता की पहचान करें :

1. आरंभिक चेतावनी संकेत
2. ग्राहक ध्यान-केन्द्रण
3. रणनीति निर्माण
4. सार्वजनिक छवि

Options :

485584148205. 1  
485584148206. 2  
485584148207. 3  
485584148208. 4

Question Number : 358 Question Id : 48558437053 Question Type : MCQ Option Shuffling : No Is Question Mandatory : No Calculator : None Response Time : N.A Think Time : N.A Minimum Instruction Time : 0

Correct Marks : 5 Wrong Marks : 1

Question Key Details :

Key	Value
Comprehension	MCQ

This method of issuing securities is considered to be inexpensive as it does not require any brokers, agents, under writers, prospectus or enlistment, etc. Identify the method discussed above.

1. Public issue
2. Rights issue
3. Private placement
4. Offer to the employees

**Options :**

- 485584148209. 1
- 485584148210. 2
- 485584148211. 3
- 485584148212. 4

**Question Number : 358 Question Id : 48558437053 Question Type : MCQ Option Shuffling : No Is Question Mandatory : No Calculator : None Response Time : N.A Think Time : N.A Minimum Instruction Time : 0**

**Correct Marks : 5 Wrong Marks : 1**

**Question Key Details :**

Key	Value
Comprehension	MCQ

प्रतिभूतिपों जारी करने की यह विधि कम खर्चीली। सस्ती मानी जाती है क्योंकि इसमें किसी दलाल, एजेंट, अंडर राइटर, विवरणिका या सूचीबद्धता इत्यादि की आवश्यकता नहीं होती है। उपरोक्त में चर्चा की गई विधि की पहचान करें।

1. सार्वजनिक निर्गम
2. राइट्स निर्गम
3. निजी संस्थापन
4. कर्मचारियों को प्रस्ताव

**Options :**

- 485584148209. 1
- 485584148210. 2
- 485584148211. 3
- 485584148212. 4

**Question Number : 359 Question Id : 48558437054 Question Type : MCQ Option Shuffling : No Is Question Mandatory : No Calculator : None Response Time : N.A Think Time : N.A Minimum Instruction Time : 0**

**Correct Marks : 5 Wrong Marks : 1**

**Question Key Details :**

Key	Value
Comprehension	MCQ

Ratan is the CEO of 'Prava Ltd.' The total share capital of the company is ₹2700 cr. Ratan needs a sum of ₹700 cr for expansion and decides to issue more shares. Identify the type of market and type of issue he will use.

1. Secondary market, further issue
2. Primary market, initial issue
3. Secondary market, initial issue
4. Primary market, further issue

**Options :**

- 485584148213. 1
- 485584148214. 2

485584148215. 3  
485584148216. 4

**Question Number : 359 Question Id : 48558437054 Question Type : MCQ Option Shuffling : No Is Question Mandatory : No Calculator : None**  
**Response Time : N.A Think Time : N.A Minimum Instruction Time : 0**  
**Correct Marks : 5 Wrong Marks : 1**

**Question Key Details :**

Key	Value
Comprehension	MCQ

रतन 'प्रावा लिमिटेड' का सी ई ओ है। कंपनी की कुल अंश पूंजी 700 करोड़ रुपए है। रतन को विस्तार के लिए 600 करोड़ रुपए की धनराशि की आवश्यकता है और वह अधिक शेयर जारी करने का निर्णय लेता है। उसके द्वारा प्रयुक्त किए जाने वाले बाजार और निर्गम के प्रकार की पहचान करें :

1. द्वितीयक बाजार, और अधिक निर्गम
2. प्राथमिक बाजार, आरंभिक निर्गम
3. द्वितीयक बाजार, आरंभिक निर्गम
4. प्राथमिक बाजार, और अधिक निर्गम

**Options :**

485584148213. 1  
485584148214. 2  
485584148215. 3  
485584148216. 4

**Question Number : 360 Question Id : 48558437055 Question Type : MCQ Option Shuffling : No Is Question Mandatory : No Calculator : None**  
**Response Time : N.A Think Time : N.A Minimum Instruction Time : 0**  
**Correct Marks : 5 Wrong Marks : 1**

**Question Key Details :**

Key	Value
Comprehension	MCQ

Rajat and Mohan are partners in a garment manufacturing unit in Jaipur. On his visit to Rajkot, Rajat made a contract with a fabric vendor to purchase fabric worth 40 lakh without consulting Mohan. Identify the characteristics of partnership that makes this contract legally bound on the firm if Mohan is not willing.

1. Unlimited liability
2. Implied authority
3. Unlimited liability
4. Restriction on transfer of shares

**Options :**

485584148217. 1  
485584148218. 2  
485584148219. 3  
485584148220. 4

**Question Number : 360 Question Id : 48558437055 Question Type : MCQ Option Shuffling : No Is Question Mandatory : No Calculator : None**  
**Response Time : N.A Think Time : N.A Minimum Instruction Time : 0**  
**Correct Marks : 5 Wrong Marks : 1**

**Question Key Details :**

Key	Value
Comprehension	MCQ

रजत और मोहन जयपुर में एक परिधान निर्माण इकाई में साझेदार हैं। राजकोट के अपने दौरे के समय रजत, मोहन से परामर्श लिए बिना 40 लाख का फैब्रिक खरीदने का अनुबंध एक फैब्रिक वेन्डर से करता है। साझेदारी की उस विशेषता की पहचान करें जो इस अनुबंध को फर्म पर बाध्यकारी बनाती है, भले ही मोहन इच्छुक नहीं है।

1. असीमित देयता
2. अभिविहित प्राधिकार
3. असीमित देयता
4. अंशों के हस्तांतरण पर प्रतिबंध

**Options :**

- 485584148217. 1
- 485584148218. 2
- 485584148219. 3
- 485584148220. 4

**Question Number : 361 Question Id : 48558437056 Question Type : MCQ Option Shuffling : No Is Question Mandatory : No Calculator : None Response Time : N.A Think Time : N.A Minimum Instruction Time : 0**

**Correct Marks : 5 Wrong Marks : 1**

**Question Key Details :**

Key	Value
Comprehension	MCQ

ABC Company has the following items in their Balance Sheet. Calculate Net Working Capital -

Stock = ₹50,000, Cash = ₹5,00,000, Creditors = ₹55,000, Short term investment = ₹20,000, Long term investment = ₹1,00,000. Outstanding expenses ₹15,000

1. 5,70,000
2. 70,000
3. 6,00,000
4. 5,00,000

**Options :**

- 485584148221. 1
- 485584148222. 2
- 485584148223. 3
- 485584148224. 4

**Question Number : 361 Question Id : 48558437056 Question Type : MCQ Option Shuffling : No Is Question Mandatory : No Calculator : None Response Time : N.A Think Time : N.A Minimum Instruction Time : 0**

**Correct Marks : 5 Wrong Marks : 1**

**Question Key Details :**

Key	Value
Comprehension	MCQ



ABC कंपनी के तुलनपत्र में निम्नलिखित मदें हैं। निम्नलिखित मदें हैं -

निवल कार्यशील पूंजी की गणना करें -

स्टॉक = ₹50,000, नकद = ₹5,00,000, फर्जप्रदाता = ₹55,000, अल्पावधि निवेश = ₹20,000, दीर्घावधि निवेश = ₹1,00,000, लंबित खर्च ₹15,000

1. 5,70,000

2. 70,000

3. 6,60,000

4. 5,00,000

**Options :**

485584148221. 1

485584148222. 2

485584148223. 3

485584148224. 4

**Question Number : 362 Question Id : 48558437057 Question Type : MCQ Option Shuffling : No Is Question Mandatory : No Calculator : None Response Time : N.A Think Time : N.A Minimum Instruction Time : 0**

**Correct Marks : 5 Wrong Marks : 1**

**Question Key Details :**

Key	Value
Comprehension	MCQ

Identify the method of floatation of new issue in which securities are sold to a limited number of sophisticated investors.

1. Offer to employees

2. Private placement

3. Right Issue

4. Public Issue

**Options :**

485584148225. 1

485584148226. 2

485584148227. 3

485584148228. 4

**Question Number : 362 Question Id : 48558437057 Question Type : MCQ Option Shuffling : No Is Question Mandatory : No Calculator : None Response Time : N.A Think Time : N.A Minimum Instruction Time : 0**

**Correct Marks : 5 Wrong Marks : 1**

**Question Key Details :**

Key	Value
Comprehension	MCQ

नए निर्गम संचालित करने की उस विधि की पहचान करें जिसमें प्रतिभूतियाँ सीमित संख्या में संभ्रांत निवेशकों को बेची जाती हैं।

1. कर्मचारियों को प्रस्ताव
2. निजी संस्थापन
3. राइट निर्गम
4. सार्वजनिक निर्गम

**Options :**

485584148225. 1  
485584148226. 2  
485584148227. 3  
485584148228. 4

**Question Number : 363 Question Id : 48558437058 Question Type : MCQ Option Shuffling : No Is Question Mandatory : No Calculator : None Response Time : N.A Think Time : N.A Minimum Instruction Time : 0**

**Correct Marks : 5 Wrong Marks : 1**

**Question Key Details :**

Key	Value
Comprehension	MCQ

Rearrange the elements given below to create the innovation process.

- A. Identifying the product
- B. Provision of value to customers
- C. Applying the resources
- D. Obtaining the required resources

Choose the correct answer from the options given below:

1. A, C, D, B
2. A, B, C, D
3. A, D, C, B
4. B, A, C, D

**Options :**

485584148229. 1  
485584148230. 2  
485584148231. 3  
485584148232. 4

**Question Number : 363 Question Id : 48558437058 Question Type : MCQ Option Shuffling : No Is Question Mandatory : No Calculator : None Response Time : N.A Think Time : N.A Minimum Instruction Time : 0**

**Correct Marks : 5 Wrong Marks : 1**

**Question Key Details :**

Key	Value
Comprehension	MCQ

नवोन्मेष प्रक्रिया सृजित करने के निम्नलिखित तत्वों को पुनर्व्यवस्थित करें :

- A. उत्पाद की पहचान करना
- B. ग्राहकों को मूल्य का प्रावधान
- C. संसाधनों का अनुप्रयोग करना
- D. आवश्यक संसाधनों को प्राप्त करना

नीचे दिए गए विकल्पों में से सही उत्तर दीजिए :

- 1. A, C, D, B
- 2. A, B, C, D
- 3. A, D, C, B
- 4. B, A, C, D

**Options :**

- 485584148229. 1
- 485584148230. 2
- 485584148231. 3
- 485584148232. 4

**Question Number : 364 Question Id : 48558437059 Question Type : MCQ Option Shuffling : No Is Question Mandatory : No Calculator : None Response Time : N.A Think Time : N.A Minimum Instruction Time : 0**

**Correct Marks : 5 Wrong Marks : 1**

**Question Key Details :**

Key	Value
Comprehension	MCQ

Identify the concept explains measure of profitability.

- 1. Economic Order Quantity
- 2. Return on Investment
- 3. Inventory
- 4. Pareto's principle

**Options :**

- 485584148233. 1
- 485584148234. 2
- 485584148235. 3
- 485584148236. 4

**Question Number : 364 Question Id : 48558437059 Question Type : MCQ Option Shuffling : No Is Question Mandatory : No Calculator : None Response Time : N.A Think Time : N.A Minimum Instruction Time : 0**

**Correct Marks : 5 Wrong Marks : 1**

**Question Key Details :**

Key	Value
Comprehension	MCQ

लाभप्रदता के मापन की व्याख्या करने वाली संकल्पना की पहचान करें :

1. आर्थिक आदेश मात्र
2. निवेश पर प्रतिफल
3. इन्वेंट्री नियंत्रण
4. पारेटो का सिद्धांत

**Options :**

485584148233. 1  
485584148234. 2  
485584148235. 3  
485584148236. 4

**Question Number : 365 Question Id : 48558437060 Question Type : MCQ Option Shuffling : No Is Question Mandatory : No Calculator : None Response Time : N.A Think Time : N.A Minimum Instruction Time : 0**

**Correct Marks : 5 Wrong Marks : 1**

**Question Key Details :**

Key	Value
Comprehension	MCQ

Enterprise Process Diagram consists of:

- A. Opportunity spotting by analysing the needs
- B. Assured market scope
- C. Evaluating the ideas received from different sources
- D. Identifying a product through innovation
- E. setting up a project and nurturing it to success

Choose the correct answer from the options given below:

1. A, B, C, D only
2. A, C, D, E only
3. C, D, E only
4. B, C, D, E only

**Options :**

485584148237. 1  
485584148238. 2  
485584148239. 3  
485584148240. 4

**Question Number : 365 Question Id : 48558437060 Question Type : MCQ Option Shuffling : No Is Question Mandatory : No Calculator : None Response Time : N.A Think Time : N.A Minimum Instruction Time : 0**

**Correct Marks : 5 Wrong Marks : 1**

**Question Key Details :**

Key	Value
Comprehension	MCQ

उद्यम प्रक्रिया आरेख में सम्मिलित होते हैं :

- A. जरूरतों के विश्लेषण से अवसर पहचानना
- B. सुनिश्चित बाजार संभावना
- C. विभिन्न स्रोतों से प्राप्त विचारों का मूल्यांकन
- D. नवोन्मेष द्वारा किसी उत्पाद की पहचान करना
- E. किसी परियोजना की स्थापना और सफलता तक इसका पल्लवन-पोषण

नीचे दिए गए विकल्पों में से सही उत्तर दीजिए :

- 1. केवल A, B, C, D
- 2. केवल A, C, D, E
- 3. केवल C, D, E
- 4. केवल B, C, D, E

**Options :**

- 485584148237. 1
- 485584148238. 2
- 485584148239. 3
- 485584148240. 4

**Question Number : 366 Question Id : 48558437061 Question Type : MCQ Option Shuffling : No Is Question Mandatory : No Calculator : None Response Time : N.A Think Time : N.A Minimum Instruction Time : 0**

**Correct Marks : 5 Wrong Marks : 1**

**Question Key Details :**

Key	Value
Comprehension	MCQ

Match List I with List II

LIST I		LIST II	
A.	Nature Resources	I.	Departmental store going
B.	Existing products services	II.	-pillow for infants after speaking to various mothers of infants
C.	Market serves	III.	Alber vera get infused lipstick
D.	Trading related	IV.	Adding Puri - Puri masala to the pack of Maggie noodles

Choose the correct answer from the options given below:

- 1. A-III, B-IV, C-II, D-I
- 2. A-IV, B-III, C-I, D-II
- 3. A-I, B-IV, C-III, D-II
- 4. A-III, B-II, C-I, D-IV

**Options :**

- 485584148241. 1
- 485584148242. 2
- 485584148243. 3
- 485584148244. 4

**Question Number : 366 Question Id : 48558437061 Question Type : MCQ Option Shuffling : No Is Question Mandatory : No Calculator : None Response Time : N.A Think Time : N.A Minimum Instruction Time : 0**

**Correct Marks : 5 Wrong Marks : 1**

**Question Key Details :**

Key	Value
-----	-------

सूची I का सूची II से मिलान कीजिए

सूची I		सूची II	
A.	प्राकृतिक संसाधन	I.	किराना स्टोर का ऑनलाइन होना
B.	विद्यमान सेवाएँ/उत्पाद	II.	नवजात शिशुओं की माताओं से संपर्क के बाद नवजातों के लिए उत्पाद लॉन्च करना
C.	बाजार उन्मुखी	III.	ऐलोवेरा जेल से प्रभावित लिफ्टिक
D.	व्यापार संबंधित	IV.	मैगी नूडल्स के पैक के साथ पानी-पूरी मसाला जोड़ना

निम्नलिखित विकल्पों में से सही उत्तर का चयन कीजिए :

1. A-III, B-IV, C-II, D-I
2. A-IV, B-III, C-I, D-II
3. A-I, B-IV, C-III, D-II
4. A-III, B-II, C-I, D-IV

**Options :**

485584148241. 1  
485584148242. 2  
485584148243. 3  
485584148244. 4

**Question Number : 367 Question Id : 48558437062 Question Type : MCQ Option Shuffling : No Is Question Mandatory : No Calculator : None Response Time : N.A Think Time : N.A Minimum Instruction Time : 0**

**Correct Marks : 5 Wrong Marks : 1**

**Question Key Details :**

Key	Value
Comprehension	MCQ

The benefit of understanding the relevant environment of business is to identify opportunities and find strategies to capitalise on the opportunities at the earliest. Identify the importance of environment as per this statement.

1. Formulation of strategies and policies
2. Tapping useful resources
3. Identification of opportunities to get first mover advantage
4. Better performance

**Options :**

485584148245. 1  
485584148246. 2  
485584148247. 3  
485584148248. 4

**Question Number : 367 Question Id : 48558437062 Question Type : MCQ Option Shuffling : No Is Question Mandatory : No Calculator : None Response Time : N.A Think Time : N.A Minimum Instruction Time : 0**

**Correct Marks : 5 Wrong Marks : 1**

**Question Key Details :**

Key	Value
Comprehension	MCQ

व्यवसाय के प्रासंगिक पर्यावरण को समझने का लाभ यह है कि इससे अवसरों की पहचान करने और यथा शीघ्र अवसरों का लाभ उठाने के लिए रणनीतियाँ बनाई जा सकती हैं। इस कथन के आधार पर पर्यावरण की महत्ता की पहचान करें :

1. रणनीतियों और नीतियों का निर्माण
2. उपयोगी संसाधनों का लाभ उठाना
3. प्रथम प्रवेशकर्ता लाभ उठाने के लिए अवसरों की पहचान करना
4. बेहतर निष्पादन

**Options :**

- 485584148245. 1
- 485584148246. 2
- 485584148247. 3
- 485584148248. 4

**Question Number : 368 Question Id : 48558437063 Question Type : MCQ Option Shuffling : No Is Question Mandatory : No Calculator : None Response Time : N.A Think Time : N.A Minimum Instruction Time : 0**

**Correct Marks : 5 Wrong Marks : 1**

**Question Key Details :**

Key	Value
Comprehension	MCQ

\_\_\_\_\_ is a type of private equity capital provided as seed funding to early stage high risk growth up companies

1. Angel investors
2. Venture Capital
3. Borrowed Field
4. Equity

**Options :**

- 485584148249. 1
- 485584148250. 2
- 485584148251. 3
- 485584148252. 4

**Question Number : 368 Question Id : 48558437063 Question Type : MCQ Option Shuffling : No Is Question Mandatory : No Calculator : None Response Time : N.A Think Time : N.A Minimum Instruction Time : 0**

**Correct Marks : 5 Wrong Marks : 1**

**Question Key Details :**

Key	Value
Comprehension	MCQ

\_\_\_\_\_ आरंभिक चरण में कंपनियों की उच्च जोखिम वृद्धि के लिए बीज मूल वित्तपोषण के रूप में प्रदत्त निजी इक्विटी पूँजी का प्रकार है।

1. एंजल निवेशक
2. वेंचर पूँजी
3. उधारी निधियाँ
4. इक्विटी

**Options :**

- 485584148249. 1
- 485584148250. 2

485584148251. 3  
485584148252. 4

Question Number : 369 Question Id : 48558437064 Question Type : MCQ Option Shuffling : No Is Question Mandatory : No Calculator : None  
Response Time : N.A Think Time : N.A Minimum Instruction Time : 0

Correct Marks : 5 Wrong Marks : 1

Question Key Details :

Key	Value
Comprehension	MCQ

Broadcom deals in manufacturing of Bluetooth personal area network hardware systems and chips for IEEE 802.11 b wireless LAN. Mobilink Inc. deals in the manufacturing of product design meant for hand sets. The acquisition of mobile link Telecom Inc. by Broadcom is proper example of \_\_\_\_\_ merger.

1. Vertical
2. Product Extension
3. Market Extension
4. Horizontal

Options :

485584148253. 1  
485584148254. 2  
485584148255. 3  
485584148256. 4

Question Number : 369 Question Id : 48558437064 Question Type : MCQ Option Shuffling : No Is Question Mandatory : No Calculator : None  
Response Time : N.A Think Time : N.A Minimum Instruction Time : 0

Correct Marks : 5 Wrong Marks : 1

Question Key Details :

Key	Value
Comprehension	MCQ

ब्रॉडकोम IEEE 802.11 b वायरलेस लैन के लिए पर्सनल एरिया नेटवर्क, हार्डवेयर प्रणालियों और चिप के निर्माण में संलग्न है। मोबिलिंक टेलीकॉम इक हैंडसेट के लिए उत्पाद डिजाइन के निर्माण में संलग्न है।

1. ऊर्ध्वधर
2. उत्पाद विस्तार
3. बाजार विस्तार
4. क्षैतिज

Options :

485584148253. 1  
485584148254. 2  
485584148255. 3  
485584148256. 4

Question Number : 370 Question Id : 48558437065 Question Type : MCQ Option Shuffling : No Is Question Mandatory : No Calculator : None  
Response Time : N.A Think Time : N.A Minimum Instruction Time : 0

Correct Marks : 5 Wrong Marks : 1

Question Key Details :

Key	Value
Comprehension	MCQ



A company provide a business owner with a proven method for operating a business using the name and trademark of the company. The business owner pays a fee or royalty in return on basis of above given lines. Identify the type of franchising \_\_\_\_\_

1. Product franchise business opportunity
2. Manufacturing franchise opportunity
3. Business franchise opportunity
4. Business format franchise opportunity

**Options :**

485584148257. 1  
 485584148258. 2  
 485584148259. 3  
 485584148260. 4

**Question Number : 370 Question Id : 48558437065 Question Type : MCQ Option Shuffling : No Is Question Mandatory : No Calculator : None Response Time : N.A Think Time : N.A Minimum Instruction Time : 0**

**Correct Marks : 5 Wrong Marks : 1**

**Question Key Details :**

Key	Value
Comprehension	MCQ

कोई कंपनी, अपने नाम और ट्रेडमार्क के उपयोग द्वारा किसी व्यवसाय के संचालन के लिए सिद्ध विधि किसी व्यवसाय स्वामी को प्रदान करती है। बदले में व्यवसाय स्वामी फीस या रॉयल्टी का भुगतान करता है। इन पंक्तियों के आधार पर फ्रैंचाइजीकरण के प्रकार की पहचान करें :-

1. उत्पाद फ्रैंचाइजी व्यवसाय अवसर
2. विनिर्माण फ्रैंचाइजी अवसर
3. व्यवसाय फ्रैंचाइजी अवसर
4. व्यवसाय प्रारूप फ्रैंचाइजी अवसर

**Options :**

485584148257. 1  
 485584148258. 2  
 485584148259. 3  
 485584148260. 4

**Question Number : 371 Question Id : 48558437066 Question Type : MCQ Option Shuffling : No Is Question Mandatory : No Calculator : None Response Time : N.A Think Time : N.A Minimum Instruction Time : 0**

**Correct Marks : 5 Wrong Marks : 1**

**Question Key Details :**

Key	Value
Comprehension	MCQ

\_\_\_\_\_ is a process, a tool strategy, an orientation which shows a name, a sign or a symbol etc is given to a product by the entrepreneur so as to differentiate his product from the ritual products.

1. Branding
2. logo and tagline
3. labelling
4. Packaging

**Options :**

485584148261. 1  
485584148262. 2  
485584148263. 3  
485584148264. 4

**Question Number : 371 Question Id : 48558437066 Question Type : MCQ Option Shuffling : No Is Question Mandatory : No Calculator : None Response Time : N.A Think Time : N.A Minimum Instruction Time : 0**

**Correct Marks : 5 Wrong Marks : 1**

**Question Key Details :**

Key	Value
Comprehension	MCQ

\_\_\_\_\_ एक प्रक्रिया, एक उपकरण, एक रणनीति, एक उन्मुखीकरण हैं जो किसी उद्यमी द्वारा अपने उत्पाद को प्रतिस्पर्धी उत्पादों से अलग दिखाने के लिए किसी उत्पाद को दिए गए नाम, संकेत या प्रतीक आदि को दर्शाते हैं।

1. ब्रांडिंग
2. लोगो और टैगलाइंस
3. लेबलीकरण
4. पैकेजिंग

**Options :**

485584148261. 1  
485584148262. 2  
485584148263. 3  
485584148264. 4

**Question Number : 372 Question Id : 48558437067 Question Type : MCQ Option Shuffling : No Is Question Mandatory : No Calculator : None Response Time : N.A Think Time : N.A Minimum Instruction Time : 0**

**Correct Marks : 5 Wrong Marks : 1**

**Question Key Details :**

Key	Value
Comprehension	MCQ

An Automobile company joining with a Auto parts supplier would be an example of a \_\_\_\_\_ merger.

1. Vertical merger
2. Horizontal merger
3. Market Extension
4. Product Extension

**Options :**

485584148265. 1  
485584148266. 2  
485584148267. 3  
485584148268. 4

**Question Number : 372 Question Id : 48558437067 Question Type : MCQ Option Shuffling : No Is Question Mandatory : No Calculator : None Response Time : N.A Think Time : N.A Minimum Instruction Time : 0**

**Correct Marks : 5 Wrong Marks : 1**

**Question Key Details :**

Key	Value
Comprehension	MCQ

किसी वाहन कलपुर्जा आपूर्तिकर्ता के साथ किसी वाहन कंपनी का जुड़ना \_\_\_\_\_ विलय का उदाहरण है :

1. ऊर्ध्वाधर विलय
2. क्षैतिज विलय
3. बाजार विस्तार
4. उत्पाद विस्तार

**Options :**

485584148265. 1  
485584148266. 2  
485584148267. 3  
485584148268. 4

**Question Number : 373 Question Id : 48558437068 Question Type : MCQ Option Shuffling : No Is Question Mandatory : No Calculator : None Response Time : N.A Think Time : N.A Minimum Instruction Time : 0**

**Correct Marks : 5 Wrong Marks : 1**

**Question Key Details :**

Key	Value
Comprehension	MCQ

Match List I with List II

LIST I		LIST II	
A.	Capital Market	I.	Issues securities to old companies
B.	Initial Issues	II.	Create a halo effect
C.	Further Issues	III.	Issue securities to public for first time
D.	A Facebook IPO	IV.	Transfer finances resources from Investors to Entrepreneurs

Choose the correct answer from the options given below:

1. A-IV, B-II, C-I, D-II
2. A-III, B-IV, C-II, D-I
3. A-IV, B-II, C-III, D-I
4. A-IV, B-I, C-III, D-II

**Options :**

485584148269. 1  
485584148270. 2  
485584148271. 3  
485584148272. 4

**Question Number : 373 Question Id : 48558437068 Question Type : MCQ Option Shuffling : No Is Question Mandatory : No Calculator : None Response Time : N.A Think Time : N.A Minimum Instruction Time : 0**

**Correct Marks : 5 Wrong Marks : 1**

**Question Key Details :**

Key	Value
Comprehension	MCQ

सूची I का सूची II से मिलान कीजिए

सूची I		सूची II	
A.	पूँजी बाजार	I.	पुरानी कंपनियों की प्रतिभूतियाँ जारी करना
B.	आरंभिक निर्गम	II.	खोखला प्रभाव सृजित करना
C.	और अधिक निर्गम	III.	जनता को पहली बार प्रतिभूतियाँ जारी करना
D.	फेसबुक आई पी ओ	IV.	निवेशकों से उद्यमियों को वित्तीय संसाधनों का हस्तांतरण

निम्नलिखित विकल्पों में से सही उत्तर का चयन कीजिए :

1. A-IV, B-II, C-I, D-II
2. A-III, B-IV, C-II, D-I
3. A-IV, B-II, C-III, D-I
4. A-IV, B-I, C-III, D-II

**Options :**

485584148269. 1  
485584148270. 2  
485584148271. 3  
485584148272. 4

**Question Number : 374 Question Id : 48558437069 Question Type : MCQ Option Shuffling : No Is Question Mandatory : No Calculator : None Response Time : N.A Think Time : N.A Minimum Instruction Time : 0**

**Correct Marks : 5 Wrong Marks : 1**

**Question Key Details :**

Key	Value
Comprehension	MCQ

Which of the following is incorrect about mergers?

1. In any type of merger at least one firm loses its entity
2. A merger is combination of two companies into one larger company
3. In merger, the acquiring company takes over the assets and liabilities of the merged company
4. Merger is known as takeover, where one company buys other company

**Options :**

485584148273. 1  
485584148274. 2  
485584148275. 3  
485584148276. 4

**Question Number : 374 Question Id : 48558437069 Question Type : MCQ Option Shuffling : No Is Question Mandatory : No Calculator : None Response Time : N.A Think Time : N.A Minimum Instruction Time : 0**

**Correct Marks : 5 Wrong Marks : 1**

**Question Key Details :**

Key	Value
Comprehension	MCQ

विलयों के बारे में निम्नलिखित में से कौन-सा कथन असत्य है?

1. किसी भी विलय में कम-से-कम एक फर्म अपनी पहचान खोती है।
2. दो कंपनियों का संयोजित होकर एक बड़ी कंपनी बनना विलय है।
3. विलय में अर्जनकारी कंपनी, अधिग्रहित कंपनी की आस्तियों और देयताओं को अर्जित कर देती है।
4. विलय को टेकओवर (अधिग्रहण) कहा जाता है जब एक कंपनी, दूसरी कंपनी को खरीदती है।

**Options :**

485584148273. 1  
485584148274. 2  
485584148275. 3  
485584148276. 4

**Question Number : 375 Question Id : 48558437070 Question Type : MCQ Option Shuffling : No Is Question Mandatory : No Calculator : None Response Time : N.A Think Time : N.A Minimum Instruction Time : 0**

**Correct Marks : 5 Wrong Marks : 1**

**Question Key Details :**

Key	Value
Comprehension	MCQ

Sequentially arrange the steps to calculate the return on Equity by an entrepreneur.

- A. Subtract fixed - to arrive at profit before tax.
- B. Calculate sales Revenue
- C. Divide the Net income by equity of investor
- D. Subtract cost of goods sold to arrive at Gross margin
- E. Calculate the income

Choose the correct answer from the options given below:

1. D, B, C, A, E
2. A, c, D, B, E
3. B, D, A, E, C
4. C, E, B, A, D

**Options :**

485584148277. 1  
485584148278. 2  
485584148279. 3  
485584148280. 4

**Question Number : 375 Question Id : 48558437070 Question Type : MCQ Option Shuffling : No Is Question Mandatory : No Calculator : None Response Time : N.A Think Time : N.A Minimum Instruction Time : 0**

**Correct Marks : 5 Wrong Marks : 1**

**Question Key Details :**

Key	Value
Comprehension	MCQ

किसी उद्यमी द्वारा इक्विटी पर प्रतिफल की गणना करने के सोपानों को कालक्रमानुसार व्यवस्थित करें :

- A. कर पूर्व लाभ के लिए नियत खर्चों को घटाना
- B. बिक्री राजस्व की गणना
- C. निवल आय में निवेशक की इक्विटी का भाग देना
- D. सकल मार्जिन के लिए बेची गई वस्तुओं की लागत घटाना
- E. निवल आय की गणना

नीचे दिए गए विकल्पों में से सही उत्तर दीजिए :

1. D, B, C, A, E

2. A, e, D, B, E

3. B, D, A, E, C

4. C, E, B, A, D

**Options :**

485584148277. 1

485584148278. 2

485584148279. 3

485584148280. 4

**Sub-Section Number :**

2

**Sub-Section Id :**

4855842808

**Question Shuffling Allowed :**

No

**Is Section Default? :**

null

**Question Number : 376 Question Id : 48558437071 Question Type : MCQ Option Shuffling : No Is Question Mandatory : No Calculator : None Response Time : N.A Think Time : N.A Minimum Instruction Time : 0**

**Correct Marks : 5 Wrong Marks : 1**

**Question Key Details :**

Key	Value
Comprehension	Comp1

Manish a graduate from Delhi university who had studied entrepreneurship as one of his subjects. He is fond of travelling. During one of his visits to North-east India, Manish was awe struck by the beauty of the north eastern states. He observed that the bamboo industries was flourishing in these state especially in the state of Nagaland. The products made of Bamboo were in great demand and had led to setting up of various micro and cottage industries. While staying in the hotel he read in one of the national daily/newspaper that the central Government is incentivizing industries under the 'ACT EAST POLICY'. To know more about the business environment he talked to a few locals and read a few popular blogs. He closely monitored the environment and identified an economic idea and read a few popular blogs. He closely monitored the environment and identified an economic idea can be implemented to create a profitable business enterprise. He plans to start a travel and tourism venture especially targeting the north eastern states. He plans to promote his venture online via various social networking sites. He has a blog page and dedicated it to the north eastern states. He is planning to name his firm "Meet the seven sisters" Impressed with Manish's blog, and his plans to start an entrepreneurial venture his friend Rhogsyd advised Manish to get legal protection and exclusive right against misuse of the firm's name. He also advised him to meet Mrs. Malini a retired CEO of a reputed airlines for funding. Manish met Mrs. Malini who was impressed with his idea and she was willing to fund the venture in exchange of convertible debt . She understood that the venture had huge potential but it also involved huge risk. Along with funds Malini mentored and provided proactive advise and shared contact details of her acquaintances with Manish.

Identify the idea field referred in the line "He observed that the bamboo industries were flourishing in these state especially in the state of Nagaland"

1. Natural resource
2. Existing product
3. Service driven
4. Market driven

**Options :**

485584148281. 1  
485584148282. 2  
485584148283. 3  
485584148284. 4

**Question Number : 376 Question Id : 48558437071 Question Type : MCQ Option Shuffling : No Is Question Mandatory : No Calculator : None Response Time : N.A Think Time : N.A Minimum Instruction Time : 0**

**Correct Marks : 5 Wrong Marks : 1**

**Question Key Details :**

Key	Value
Comprehension	Compl

दिल्ली विश्वविद्यालय से स्नातक कर रहे मनीष ने एक विषय के रूप में उद्यमिता का अध्ययन किया है। वह यात्रा करने का शौकीन है। उत्तर-पूर्व भारत के अपने एक दौरे में वह उत्तर-पूर्वी राज्यों की सुंदरता से प्रभावित हुआ। उसने देखा कि इन राज्यों विशेषकर नागालैंड में बांस उत्पाद फल-फूल रहे हैं। बांस से बने उत्पादों की व्यापक मांग थी और इससे कई लघु और कुटीर उद्योग स्थापित हुए थे। होटल में ठहरते समय उसने एक राष्ट्रीय अखबार में पढ़ा कि केंद्रीय सरकार 'एक्ट ईस्ट नीति' के अंतर्गत उद्योगों को प्रोत्साहन दे रही है। व्यवसाय पर्यावरण के बारे में और अधिक जानने के लिए उसने स्थानीय लोगों से बात की और कुछ ब्लॉग पढ़े। उसने निकटता से व्यवसाय पर्यावरण को देखा और एक आर्थिक विचार को पहचाना जिसका लाभप्रद व्यवसाय उद्यम में कार्यान्वयन किया जा सकता है। वह पूर्वोत्तर राज्यों पर ध्यान देने वाला यात्रा और पर्यटन उद्यम शुरू करना चाहते हैं। वह विभिन्न सोशल नेटवर्किंग वेबसाइटों द्वारा अपने उद्यम का ऑनलाइन प्रचार करना चाहते हैं। उसने एक वेब पेज बनाया और इसे पूर्वोत्तर राज्यों को समर्पित किया। वह अपनी फर्म का नाम 'सात बहनों से मिलन' रखना चाहते हैं।

मनीष के ब्लॉग और उद्यमिता वेब शुरू करने की उसकी योजनाओं से प्रभावित होकर उसके मित्र रोमिंड ने फर्म के नाम का दुरुपयोग रोकने के लिए विधिक संरक्षण और अनन्य अधिकार प्राप्त करने का सुझाव दिया। उसने वित्तपोषण के लिए मनीष को एक प्रतिष्ठित कंपनी की सेवानिवृत्त सीईओ मिसेज मालिनी से मिले जो उसके विचार से प्रभावित हुई तथा संपरिवर्तनीय फंड 'डेट के बदले में उसके उद्यम का वित्तपोषण करने को तैयार थी।

उसने समझा कि वेब में बहुत संभावना है किन्तु इसमें बड़ा जोखिम भी है। निधियों के अलावा मालिनी ने मनीष का मार्गदर्शन किया तथा अपने संपर्कों के विवरण साझा करने के साथ ही उसे सक्रियतापूर्वक सलाह प्रदान की।

"उसने देखा कि इन राज्यों, विशेषकर नागालैंड में बांस उद्यम फल-फूल रहे हैं।" इस पंक्ति में संदर्भित विचार क्षेत्र की पहचान करें -

1. प्राकृतिक संसाधन
2. विद्यमान उत्पाद
3. सेवा क्षेत्रक
4. बाजार संचालित

**Options :**

485584148281. 1  
485584148282. 2  
485584148283. 3  
485584148284. 4

Question Number : 377 Question Id : 48558437072 Question Type : MCQ Option Shuffling : No Is Question Mandatory : No Calculator : None Response Time : N.A Think Time : N.A Minimum Instruction Time : 0

Correct Marks : 5 Wrong Marks : 1

Question Key Details :

Key	Value
Comprehension	Comp1

Manish a graduate from Delhi university who had studied entrepreneurship as one of his subjects. He is fond of travelling. During one of his visits to North-east India, Manish was awe struck by the beauty of the north eastern states. He observed that the bamboo industries was flourishing in these state especially in the state of Nagaland. The products made of Bamboo were in great demand and had led to setting up of various micro and cottage industries. While staying in the hotel he read in one of the national daily/newspaper that the central Government is incentivizing industries under the 'ACT EAST POLICY'. To know more about the business environment he talked to a few locals and read a few popular blogs. He closely monitored the environment and identified an economic idea and read a few popular blogs. He closely monitored the environment and identified an economic idea can be implemented to create a profitable business enterprise. He plans to start a travel and tourism venture especially targeting the north eastern states. He plans to promote his venture online via various social networking sites. He has a blog page and dedicated it to the north eastern states. He is planning to name his firm "Meet the seven sisters" Impressed with Manish's blog, and his plans to start an entrepreneurial venture his friend Rhogsyd advised Manish to get legal protection and exclusive right against misuse of the firm's name. He also advised him to meet Mrs. Malini a retired CEO of a reputed airlines for funding. Manish met Mrs. Malini who was impressed with his idea and she was willing to fund the venture in exchange of convertible debt. She understood that the venture had huge potential but it also involved huge risk. Along with funds Malini mentored and provided proactive advise and shared contact details of her acquaintances with Manish.

" The market research of the state government stated that products made of Bamboo were in great demand and had led to setting up of various micro and cottage industries". Identify the idea field from the live above.

1. Natural resource
2. Existing product
3. Services sector
4. Market driven

Options :

485584148285. 1

485584148286. 2

485584148287. 3

485584148288. 4

Question Number : 377 Question Id : 48558437072 Question Type : MCQ Option Shuffling : No Is Question Mandatory : No Calculator : None Response Time : N.A Think Time : N.A Minimum Instruction Time : 0

Correct Marks : 5 Wrong Marks : 1

Question Key Details :

Key	Value
Comprehension	Comp1



दिल्ली विश्वविद्यालय से स्नातक कर रहे मनीष ने एक विषय के रूप में उद्यमिता का अध्ययन किया है। वह यात्रा करने का शौकीन है। उत्तर-पूर्व भारत के अपने एक दौरे में वह उत्तर-पूर्वी राज्यों की सुंदरता से प्रभावित हुआ। उसने देखा कि इन राज्यों विशेषकर नागालैंड में बांस उत्पाद फल-फूल रहे हैं। बांस से बने उत्पादों की व्यापक माँग थी और इससे कई लघु और कुटीर उद्योग स्थापित हुए थे। होटल में ठहरते समय उसने एक राष्ट्रीय अखबार में पढ़ा कि केंद्रीय सरकार 'एक्ट ईस्ट नीति' के अंतर्गत उद्योगों को प्रोत्साहन दे रही है। व्यवसाय पर्यावरण के बारे में और अधिक जानने के लिए उसने स्थानीय लोगों से बात की और कुछ ब्लॉग पढ़े। उसने निकटता से व्यवसाय पर्यावरण को देखा और एक आर्थिक विचार को पहचाना जिसका लाभप्रद व्यवसाय उद्यम में कार्यान्वयन किया जा सकता है। वह पूर्वोत्तर राज्यों पर ध्यान देने वाला यात्रा और पर्यटन उद्यम शुरू करना चाहते हैं। वह विभिन्न सोशल नेटवर्किंग वेबसाइटों द्वारा अपने उद्यम का ऑनलाइन प्रचार करना चाहते हैं। उसने एक वेब पेज बनाया और इसे पूर्वोत्तर राज्यों को समर्पित किया। वह अपनी फर्म का नाम 'सात बहनों से मिलन' रखना चाहते हैं।

मनीष के ब्लॉग और उद्यमिता वेंचर शुरू करने की उसकी योजनाओं से प्रभावित होकर उसके मित्र रोमिड ने फर्म के नाम का दुरुपयोग रोकने के लिए विधिक संरक्षण और अनन्य अधिकार प्राप्त करने का सुझाव दिया। उसने वित्तपोषण के लिए मनीष को एक प्रतिष्ठित कंपनी की सेवानिवृत्त सीईओ मिसेज मालिनी से मिले जो उसके विचार से प्रभावित हुई तथा संपरिवर्तनीय कर्ज/डेट के बदले में उसके उद्यम का वित्तपोषण करने को तैयार थी।

उसने समझा कि वेंचर में बहुत संभावना है किन्तु इसमें बड़ा जोखिम भी है। निधियों के अलावा मालिनी ने मनीष का मार्गदर्शन किया तथा अपने संपर्कों के विवरण साझा करने के साथ ही उसे सक्रियतापूर्वक सलाह प्रदान की।

"राज्य सरकार की बाजार शोध रिपोर्ट ने कहा कि बांस से बने उत्पादों की बड़ी माँग है और इससे विभिन्न सूक्ष्म और कुटीर उद्योगों की स्थापना हुई है।" इस पंक्ति से विचार क्षेत्र की पहचान करें :

1. प्राकृतिक संसाधन
2. विद्यमान उत्पाद
3. सेवा क्षेत्रक
4. बाजार संचालित

**Options :**

485584148285. 1  
 485584148286. 2  
 485584148287. 3  
 485584148288. 4

**Question Number : 378 Question Id : 48558437073 Question Type : MCQ Option Shuffling : No Is Question Mandatory : No Calculator : None Response Time : N.A Think Time : N.A Minimum Instruction Time : 0**

**Correct Marks : 5 Wrong Marks : 1**

**Question Key Details :**

Key	Value
Comprehension	Comp1

Manish a graduate from Delhi university who had studied entrepreneurship as one of his subjects. He is fond of travelling. During one of his visits to North-east India, Manish was awe struck by the beauty of the north eastern states. He observed that the bamboo industries was flourishing in these state especially in the state of Nagaland. The products made of Bamboo were in great demand and had led to setting up of various micro and cottage industries. While staying in the hotel he read in one of the national daily/newspaper that the central Government is incentivizing industries under the 'ACT EAST POLICY'. To know more about the business environment he talked to a few locals and read a few popular blogs. He closely monitored the environment and identified an economic idea and read a few popular blogs. He closely monitored the environment and identified an economic idea can be implemented to create a profitable business enterprise. He plans to start a travel and tourism venture especially targeting the north eastern states. He plans to promote his venture online via various social networking sites. He has a blog page and dedicated it to the north eastern states. He is planning to name his firm "Meet the seven sisters" Impressed with Manish's blog, and his plans to start an entrepreneurial venture his friend Rhogsyd advised Manish to get legal protection and exclusive right against misuse of the firm's name. He also advised him to meet Mrs. Malini a retired CEO of a reputed airlines for funding. Manish met Mrs. Malini who was impressed with his idea and she was willing to fund the venture in exchange of convertible debt . She understood that the venture had huge potential but it also involved huge risk. Along with funds Malini mentored and provided proactive advise and shared contact details of her acquaintances with Manish.

State the way that Manish used to identify his entrepreneurial venture.

1. Problem identification
2. Trouble identification
3. Trend spotting
4. Trend setter

**Options :**

- 485584148289. 1
- 485584148290. 2
- 485584148291. 3
- 485584148292. 4

**Question Number : 378 Question Id : 48558437073 Question Type : MCQ Option Shuffling : No Is Question Mandatory : No Calculator : None Response Time : N.A Think Time : N.A Minimum Instruction Time : 0**

**Correct Marks : 5 Wrong Marks : 1**

**Question Key Details :**

Key	Value
Comprehension	Comp1

दिल्ली विश्वविद्यालय से स्नातक कर रहे मनीष ने एक विषय के रूप में उद्यमिता का अध्ययन किया है। वह यात्रा करने का शौकीन है। उत्तर-पूर्व भारत के अपने एक दौरे में वह उत्तर-पूर्वी राज्यों की सुंदरता से प्रभावित हुआ। उसने देखा कि इन राज्यों विशेषकर नागालैंड में बांस उत्पाद फल-फूल रहे हैं। बांस से बने उत्पादों की व्यापक माँग थी और इससे कई लघु और कुटीर उद्योग स्थापित हुए थे। होटल में ठहरते समय उसने एक राष्ट्रीय अखबार में पढ़ा कि केंद्रीय सरकार 'एक्ट ईस्ट नीति' के अंतर्गत उद्योगों को प्रोत्साहन दे रही है। व्यवसाय पर्यावरण के बारे में और अधिक जानने के लिए उसने स्थानीय लोगों से बात की और कुछ ब्लॉग पढ़े। उसने निकटता से व्यवसाय पर्यावरण को देखा और एक आर्थिक विचार को पहचाना जिसका लाभप्रद व्यवसाय उद्यम में कार्यान्वयन किया जा सकता है। वह पूर्वोत्तर राज्यों पर ध्यान देने वाला यात्रा और पर्यटन उद्यम शुरू करना चाहते हैं। वह विभिन्न सोशल नेटवर्किंग वेबसाइटों द्वारा अपने उद्यम का ऑनलाइन प्रचार करना चाहते हैं। उसने एक वेब पेज बनाया और इसे पूर्वोत्तर राज्यों को समर्पित किया। वह अपनी फर्म का नाम 'सात बहनों से मिलन' रखना चाहते हैं।

मनीष के ब्लॉग और उद्यमिता वेंचर शुरू करने की उसकी योजनाओं से प्रभावित होकर उसके मित्र रोमिंड ने फर्म के नाम का दुरुपयोग रोकने के लिए विधिक संरक्षण और अनन्य अधिकार प्राप्त करने का सुझाव दिया। उसने वित्तपोषण के लिए मनीष को एक प्रतिष्ठित कंपनी की सेवानिवृत्त सीईओ मिसेज मालिनी से मिले जो उसके विचार से प्रभावित हुई तथा संपरिवर्तनीय कर्ज/डेट के बदले में उसके उद्यम का वित्तपोषण करने को तैयार थी।

उसने समझा कि वेंचर में बहुत संभावना है किन्तु इसमें बड़ा जोखिम भी है। निधियों के अलावा मालिनी ने मनीष का मार्गदर्शन किया तथा अपने संपर्कों के विवरण साझा करने के साथ ही उसे सक्रियतापूर्वक सलाह प्रदान की।

मनीष किस रीति से अपने उद्यमिता वेंचर की पहचान करता है :

1. समस्या पहचान करना
2. दिक्कत पहचान करना
3. प्रवृत्ति पहचान करना
4. प्रवृत्ति स्थापक

**Options :**

- 485584148289. 1
- 485584148290. 2
- 485584148291. 3
- 485584148292. 4

**Question Number : 379 Question Id : 48558437074 Question Type : MCQ Option Shuffling : No Is Question Mandatory : No Calculator : None Response Time : N.A Think Time : N.A Minimum Instruction Time : 0**

**Correct Marks : 5 Wrong Marks : 1**

**Question Key Details :**

Key	Value
Comprehension	Comp1

Manish a graduate from Delhi university who had studied entrepreneurship as one of his subjects. He is fond of travelling. During one of his visits to North-east India, Manish was awe struck by the beauty of the north eastern states. He observed that the bamboo industries was flourishing in these state especially in the state of Nagaland. The products made of Bamboo were in great demand and had led to setting up of various micro and cottage industries. While staying in the hotel he read in one of the national daily/newspaper that the central Government is incentivizing industries under the 'ACT EAST POLICY'. To know more about the business environment he talked to a few locals and read a few popular blogs. He closely monitored the environment and identified an economic idea and read a few popular blogs. He closely monitored the environment and identified an economic idea can be implemented to create a profitable business enterprise. He plans to start a travel and tourism venture especially targeting the north eastern states. He plans to promote his venture online via various social networking sites. He has a blog page and dedicated it to the north eastern states. He is planning to name his firm "Meet the seven sisters" Impressed with Manish's blog, and his plans to start an entrepreneurial venture his friend Rhogsyd advised Manish to get legal protection and exclusive right against misuse of the firm's name. He also advised him to meet Mrs. Malini a retired CEO of a reputed airlines for funding. Manish met Mrs. Malini who was impressed with his idea and she was willing to fund the venture in exchange of convertible debt . She understood that the venture had huge potential but it also involved huge risk. Along with funds Malini mentored and provided proactive advise and shared contact details of her acquaintances with Manish.

"Manish identified an economic idea that can be implemented to create a profitable business enterprise."  
Identify the concept.

1. Business opportunity
2. Business plan
3. Trend spotting
4. Project report

**Options :**

- 485584148293. 1
- 485584148294. 2
- 485584148295. 3
- 485584148296. 4

Question Number : 379 Question Id : 48558437074 Question Type : MCQ Option Shuffling : No Is Question Mandatory : No Calculator : None Response Time : N.A Think Time : N.A Minimum Instruction Time : 0

Correct Marks : 5 Wrong Marks : 1

**Question Key Details :**

Key	Value
Comprehension	Comp1

दिल्ली विश्वविद्यालय से स्नातक कर रहे मनीष ने एक विषय के रूप में उद्यमिता का अध्ययन किया है। वह यात्रा करने का शौकीन है। उत्तर-पूर्व भारत के अपने एक दौरे में वह उत्तर-पूर्वी राज्यों की सुंदरता से प्रभावित हुआ। उसने देखा कि इन राज्यों विशेषकर नागालैंड में बांस उत्पाद फल-फूल रहे हैं। बांस से बने उत्पादों की व्यापक माँग थी और इससे कई लघु और कुटीर उद्योग स्थापित हुए थे। होटल में ठहरते समय उसने एक राष्ट्रीय अखबार में पढ़ा कि केंद्रीय सरकार 'एक्ट ईस्ट नीति' के अंतर्गत उद्योगों को प्रोत्साहन दे रही है। व्यवसाय पर्यावरण के बारे में और अधिक जानने के लिए उसने स्थानीय लोगों से बात की और कुछ ब्लॉग पढ़े। उसने निकटता से व्यवसाय पर्यावरण को देखा और एक आर्थिक विचार को पहचाना जिसका लाभप्रद व्यवसाय उद्यम में कार्यान्वयन किया जा सकता है। वह पूर्वोत्तर राज्यों पर ध्यान देने वाला यात्रा और पर्यटन उद्यम शुरू करना चाहते हैं। वह विभिन्न सोशल नेटवर्किंग वेबसाइटों द्वारा अपने उद्यम का ऑनलाइन प्रचार करना चाहते हैं। उसने एक वेब पेज बनाया और इसे पूर्वोत्तर राज्यों को समर्पित किया। वह अपनी फर्म का नाम 'सात बहनों से मिलन' रखना चाहते हैं।

मनीष के ब्लॉग और उद्यमिता वेंचर शुरू करने की उसकी योजनाओं से प्रभावित होकर उसके मित्र रोमिंड ने फर्म के नाम का दुरुपयोग रोकने के लिए विधिक संरक्षण और अनन्य अधिकार प्राप्त करने का सुझाव दिया। उसने वित्तपोषण के लिए मनीष को एक प्रतिष्ठित कंपनी की सेवानिवृत्त सीईओ मिसेज मालिनी से मिले जो उसके विचार से प्रभावित हुई तथा संपरिवर्तनीय कर्ज/डेड के बदले में उसके उद्यम का वित्तपोषण करने को तैयार थी।

उसने समझा कि वेंचर में बहुत संभावना है किन्तु इसमें बड़ा जोखिम भी है। निधियों के अलावा मालिनी ने मनीष का मार्गदर्शन किया तथा अपने संपर्कों के विवरण साझा करने के साथ ही उसे सक्रियतापूर्वक सलाह प्रदान की।

"मनीष ने एक आर्थिक विचार की पहचान की, जिसका कार्यान्वयन करके लाभप्रद व्यवसाय उद्यम बनाया जा सकता है।" संकल्पना की पहचान करें :

1. व्यवसाय अवसर
2. व्यवसाय योजना
3. प्रवृत्ति पहचान
4. परियोजना रिपोर्ट

**Options :**

485584148293. 1  
 485584148294. 2  
 485584148295. 3  
 485584148296. 4

**Question Number : 380 Question Id : 48558437075 Question Type : MCQ Option Shuffling : No Is Question Mandatory : No Calculator : None Response Time : N.A Think Time : N.A Minimum Instruction Time : 0**

**Correct Marks : 5 Wrong Marks : 1**

**Question Key Details :**

Key	Value
Comprehension	Comp1

Manish a graduate from Delhi university who had studied entrepreneurship as one of his subjects. He is fond of travelling. During one of his visits to North-east India, Manish was awe struck by the beauty of the north eastern states. He observed that the bamboo industries was flourishing in these state especially in the state of Nagaland. The products made of Bamboo were in great demand and had led to setting up of various micro and cottage industries. While staying in the hotel he read in one of the national daily/newspaper that the central Government is incentivizing industries under the 'ACT EAST POLICY'. To know more about the business environment he talked to a few locals and read a few popular blogs. He closely monitored the environment and identified an economic idea and read a few popular blogs. He closely monitored the environment and identified an economic idea can be implemented to create a profitable business enterprise. He plans to start a travel and tourism venture especially targeting the north eastern states. He plans to promote his venture online via various social networking sites. He has a blog page and dedicated it to the north eastern states. He is planning to name his firm "Meet the seven sisters" Impressed with Manish's blog, and his plans to start an entrepreneurial venture his friend Rhogsyd advised Manish to get legal protection and exclusive right against misuse of the firm's name. He also advised him to meet Mrs. Malini a retired CEO of a reputed airlines for funding. Manish met Mrs. Malini who was impressed with his idea and she was willing to fund the venture in exchange of convertible debt . She understood that the venture had huge potential but it also involved huge risk. Along with funds Malini mentored and provided proactive advise and shared contact details of her acquaintances with Manish.

"Meet the seven sisters" is the term that Manish proposes to use for his firm. Identify the concept referred here.

1. Brand Name
2. Brand Mark
3. Brand Manager
4. Brand Task

**Options :**

- 485584148297. 1
- 485584148298. 2
- 485584148299. 3
- 485584148300. 4

**Question Number : 380 Question Id : 48558437075 Question Type : MCQ Option Shuffling : No Is Question Mandatory : No Calculator : None Response Time : N.A Think Time : N.A Minimum Instruction Time : 0**

**Correct Marks : 5 Wrong Marks : 1**

**Question Key Details :**

Key	Value
Comprehension	Comp1

दिल्ली विश्वविद्यालय से स्नातक कर रहे मनीष ने एक विषय के रूप में उद्यमिता का अध्ययन किया है। वह यात्रा करने का शौकीन है। उत्तर-पूर्व भारत के अपने एक दौरे में वह उत्तर-पूर्वी राज्यों की सुंदरता से प्रभावित हुआ। उसने देखा कि इन राज्यों विशेषकर नागालैंड में बांस उत्पाद फल-फूल रहे हैं। बांस से बने उत्पादों की व्यापक माँग थी और इससे कई लघु और कुटीर उद्योग स्थापित हुए थे। होटल में ठहरते समय उसने एक राष्ट्रीय अखबार में पढ़ा कि केंद्रीय सरकार 'एक्ट ईस्ट नीति' के अंतर्गत उद्योगों को प्रोत्साहन दे रही है। व्यवसाय पर्यावरण के बारे में और अधिक जानने के लिए उसने स्थानीय लोगों से बात की और कुछ ब्लॉग पढ़े। उसने निकटता से व्यवसाय पर्यावरण को देखा और एक आर्थिक विचार को पहचाना जिसका लाभप्रद व्यवसाय उद्यम में कार्यान्वयन किया जा सकता है। वह पूर्वोत्तर राज्यों पर ध्यान देने वाला यात्रा और पर्यटन उद्यम शुरू करना चाहते हैं। वह विभिन्न सोशल नेटवर्किंग वेबसाइटों द्वारा अपने उद्यम का ऑनलाइन प्रचार करना चाहते हैं। उसने एक वेब पेज बनाया और इसे पूर्वोत्तर राज्यों को समर्पित किया। वह अपनी फर्म का नाम 'सात बहनों से मिलन' रखना चाहते हैं।

मनीष के ब्लॉग और उद्यमिता वेंचर शुरू करने की उसकी योजनाओं से प्रभावित होकर उसके मित्र रोमिंड ने फर्म के नाम का दुरुपयोग रोकने के लिए विधिक संरक्षण और अनन्य अधिकार प्राप्त करने का सुझाव दिया। उसने वित्तपोषण के लिए मनीष को एक प्रतिष्ठित कंपनी की सेवानिवृत्त सीईओ मिसेज मालिनी से मिले जो उसके विचार से प्रभावित हुई तथा संपरिवर्तनीय कर्ज/डेट के बदले में उसके उद्यम का वित्तपोषण करने को तैयार थी।

उसने समझा कि वेंचर में बहुत संभावना है किन्तु इसमें बड़ा जोखिम भी है। निधियों के अलावा मालिनी ने मनीष का मार्गदर्शन किया तथा अपने संपर्कों के विवरण साझा करने के साथ ही उसे सक्रियतापूर्वक सलाह प्रदान की।

'सात बहनों से मिलन' शब्द का प्रयोग मनीष अपनी फर्म के लिए करना चाहता है। यहाँ संदर्भित संकल्पना की पहचान करें :

1. ब्रांड नाम
2. ब्रांड मार्क
3. ब्रांड प्रबंधक
4. ब्रांड कार्य

**Options :**

485584148297. 1  
 485584148298. 2  
 485584148299. 3  
 485584148300. 4

**Sub-Section Number :** 3  
**Sub-Section Id :** 4855842809  
**Question Shuffling Allowed :** No  
**Is Section Default? :** null

**Question Number :** 381 **Question Id :** 48558437076 **Question Type :** MCQ **Option Shuffling :** No **Is Question Mandatory :** No **Calculator :** None  
**Response Time :** N.A **Think Time :** N.A **Minimum Instruction Time :** 0

**Correct Marks :** 5 **Wrong Marks :** 1

**Question Key Details :**

Key	Value
Comprehension	Comp2

Manish a graduate from Delhi university who had studied entrepreneurship as one of his subjects. He is fond of travelling. During one of his visits to North-east India, Manish was awe struck by the beauty of the north eastern states. He observed that the bamboo industries was flourishing in these state especially in the state of Nagaland. The products made of Bamboo were in great demand and had led to setting up of various micro and cottage industries. While staying in the hotel he read in one of the national daily/newspaper that the central Government is incentivizing industries under the 'ACT EAST POLICY'. To know more about the business environment he talked to a few locals and read a few popular blogs. He closely monitored the environment and identified an economic idea and read a few popular blogs. He closely monitored the environment and identified an economic idea can be implemented to create a profitable business enterprise. He plans to start a travel and tourism venture especially targeting the north eastern states. He plans to promote his venture online via various social networking sites. He has a blog page and dedicated it to the north eastern states. He is planning to name his firm "Meet the seven sisters" Impressed with Manish's blog, and his plans to start an entrepreneurial venture his friend Rhogsyd advised Manish to get legal protection and exclusive right against misuse of the firm's name. He also advised him to meet Mrs. Malini a retired CEO of a reputed airlines for funding. Manish met Mrs. Malini who was impressed with his idea and she was willing to fund the venture in exchange of convertible debt. She understood that the venture had huge potential but it also involved huge risk. Along with funds Malini mentored and provided proactive advise and shared contact details of her acquaintances with Manish.

"Rhogsyd advised Manish to get legal protection and exclusive right against misuse of the firm's name". Identify the concept referred here.

1. Brand mark
2. Trade mark
3. Brand name
4. Tagline

**Options :**

- 485584148301. 1
- 485584148302. 2
- 485584148303. 3
- 485584148304. 4

**Question Number : 381 Question Id : 48558437076 Question Type : MCQ Option Shuffling : No Is Question Mandatory : No Calculator : None Response Time : N.A Think Time : N.A Minimum Instruction Time : 0**

**Correct Marks : 5 Wrong Marks : 1**

**Question Key Details :**

Key	Value
Comprehension	Comp2



दिल्ली विश्वविद्यालय से स्नातक कर रहे मनीष ने एक विषय के रूप में उद्यमिता का अध्ययन किया है। वह यात्रा करने का शौकीन है। उत्तर-पूर्व भारत के अपने एक दौरे में वह उत्तर-पूर्वी राज्यों की सुंदरता से प्रभावित हुआ। उसने देखा कि इन राज्यों विशेषकर नागालैंड में बांस उत्पाद फल-फूल रहे हैं। बांस से बने उत्पादों की व्यापक माँग थी और इससे कई लघु और कुटीर उद्योग स्थापित हुए थे। होटल में ठहरते समय उसने एक राष्ट्रीय अखबार में पढ़ा कि केंद्रीय सरकार 'एक्ट ईस्ट नीति' के अंतर्गत उद्योगों को प्रोत्साहन दे रही है। व्यवसाय पर्यावरण के बारे में और अधिक जानने के लिए उसने स्थानीय लोगों से बात की और कुछ ब्लॉग पढ़े। उसने निकटता से व्यवसाय पर्यावरण को देखा और एक आर्थिक विचार को पहचाना जिसका लाभप्रद व्यवसाय उद्यम में कार्यान्वयन किया जा सकता है। वह पूर्वोत्तर राज्यों पर ध्यान देने वाला यात्रा और पर्यटन उद्यम शुरू करना चाहते हैं। वह विभिन्न सोशल नेटवर्किंग वेबसाइटों द्वारा अपने उद्यम का ऑनलाइन प्रचार करना चाहते हैं। उसने एक वेब पेज बनाया और इसे पूर्वोत्तर राज्यों को समर्पित किया। वह अपनी फर्म का नाम 'सात बहनों से मिलन' रखना चाहते हैं।

मनीष के ब्लॉग और उद्यमिता वेंचर शुरू करने की उसकी योजनाओं से प्रभावित होकर उसके मित्र रोम्सीड ने फर्म के नाम का दुरुपयोग रोकने के लिए विधिक संरक्षण और अनन्य अधिकार प्राप्त करने का सुझाव दिया। उसने वित्तपोषण के लिए मनीष को एक प्रतिष्ठित कंपनी की सेवानिवृत्त सीईओ मिसेज मालिनी से मिले जो उसके विचार से प्रभावित हुई तथा संपरिवर्तनीय कर्ज/डेब्ट के बदले में उसके उद्यम का वित्तपोषण करने को तैयार थी।

उसने समझा कि वेंचर में बहुत संभावना है किन्तु इसमें बड़ा जोखिम भी है। निधियों के अलावा मालिनी ने मनीष का मार्गदर्शन किया तथा अपने संपर्कों के विवरण साझा करने के साथ ही उसे सक्रियतापूर्वक सलाह प्रदान की।

"रोम्सीड ने फर्म के नाम का दुरुपयोग रोकने के विरुद्ध विधिक संरक्षण और अनन्य अधिकार प्राप्त करने का सुझाव को दिया।" यहाँ संदर्भित संकल्पना की पहचान करें :

1. ब्रांड नाम
2. ट्रेड मार्क
3. ब्रांड नाम
4. टैगलाइन

**Options :**

485584148301. 1
485584148302. 2
485584148303. 3
485584148304. 4

**Question Number : 382 Question Id : 48558437077 Question Type : MCQ Option Shuffling : No Is Question Mandatory : No Calculator : None Response Time : N.A Think Time : N.A Minimum Instruction Time : 0**

**Correct Marks : 5 Wrong Marks : 1**

**Question Key Details :**

Key	Value
Comprehension	Comp2

Manish a graduate from Delhi university who had studied entrepreneurship as one of his subjects. He is fond of travelling. During one of his visits to North-east India, Manish was awe struck by the beauty of the north eastern states. He observed that the bamboo industries was flourishing in these state especially in the state of Nagaland. The products made of Bamboo were in great demand and had led to setting up of various micro and cottage industries. While staying in the hotel he read in one of the national daily/newspaper that the central Government is incentivizing industries under the 'ACT EAST POLICY'. To know more about the business environment he talked to a few locals and read a few popular blogs. He closely monitored the environment and identified an economic idea and read a few popular blogs. He closely monitored the environment and identified an economic idea can be implemented to create a profitable business enterprise. He plans to start a travel and tourism venture especially targeting the north eastern states. He plans to promote his venture online via various social networking sites. He has a blog page and dedicated it to the north eastern states. He is planning to name his firm "Meet the seven sisters" Impressed with Manish's blog, and his plans to start an entrepreneurial venture his friend Rhogsyd advised Manish to get legal protection and exclusive right against misuse of the firm's name. He also advised him to meet Mrs. Malini a retired CEO of a reputed airlines for funding. Manish met Mrs. Malini who was impressed with his idea and she was willing to fund the venture in exchange of convertible debt . She understood that the venture had huge potential but it also involved huge risk. Along with funds Malini mentored and provided proactive advise and shared contact details of her acquaintances with Manish.

Manish followed which branding strategy?

1. Individual brand name
2. Family brand name
3. Corporate brand name
4. Alpha numeric name

**Options :**

- 485584148305. 1
- 485584148306. 2
- 485584148307. 3
- 485584148308. 4

**Question Number : 382 Question Id : 48558437077 Question Type : MCQ Option Shuffling : No Is Question Mandatory : No Calculator : None Response Time : N.A Think Time : N.A Minimum Instruction Time : 0**

**Correct Marks : 5 Wrong Marks : 1**

**Question Key Details :**

Key	Value
Comprehension	Comp2

दिल्ली विश्वविद्यालय से स्नातक कर रहे मनीष ने एक विषय के रूप में उद्यमिता का अध्ययन किया है। वह यात्रा करने का शौकीन है। उत्तर-पूर्व भारत के अपने एक दीरे में वह उत्तर-पूर्वी राज्यों की सुंदरता से प्रभावित हुआ। उसने देखा कि इन राज्यों विशेषकर नागालैंड में बांस उत्पाद फल-फूल रहे हैं। बांस से बने उत्पादों की व्यापक माँग थी और इससे कई लघु और कुटीर उद्योग स्थापित हुए थे। होटल में ठहरते समय उसने एक राष्ट्रीय अखबार में पढ़ा कि केंद्रीय सरकार 'एक्ट ईस्ट नीति' के अंतर्गत उद्योगों को प्रोत्साहन दे रही है। व्यवसाय पर्यावरण के बारे में और अधिक जानने के लिए उसने स्थानीय लोगों से बात की और कुछ ब्लॉग पढ़े। उसने निकटता से व्यवसाय पर्यावरण को देखा और एक आर्थिक विचार को पहचाना जिसका लाभप्रद व्यवसाय उद्यम में कार्यान्वयन किया जा सकता है। वह पूर्वोत्तर राज्यों पर ध्यान देने वाला यात्रा और पर्यटन उद्यम शुरू करना चाहते हैं। वह विभिन्न सोशल नेटवर्किंग वेबसाइटों द्वारा अपने उद्यम का ऑनलाइन प्रचार करना चाहते हैं। उसने एक वेब पेज बनाया और इसे पूर्वोत्तर राज्यों को समर्पित किया। वह अपनी फर्म का नाम 'सात बहनों से मिलन' रखना चाहते हैं।

मनीष के ब्लॉग और उद्यमिता वेंचर शुरू करने की उसकी योजनाओं से प्रभावित होकर उसके मित्र रोमिंड ने फर्म के नाम का दुरुपयोग रोकने के लिए विधिक संरक्षण और अनन्य अधिकार प्राप्त करने का सुझाव दिया। उसने वित्तपोषण के लिए मनीष को एक प्रतिष्ठित कंपनी की सेवानिवृत्त सीईओ मिसेज मालिनी से मिले जो उसके विचार से प्रभावित हुई तथा संपरिवर्तनीय कर्ज/डेड के बदले में उसके उद्यम का वित्तपोषण करने को तैयार थी।

उसने समझा कि वेंचर में बहुत संभावना है किन्तु इसमें बड़ा जोखिम भी है। निधियों के अलावा मालिनी ने मनीष का मार्गदर्शन किया तथा अपने संपर्कों के विवरण साझा करने के साथ ही उसे सक्रियतापूर्वक सलाह प्रदान की।

मनीष ने किस ब्रांडिंग रणनीति का पालन किया?

1. व्यक्तिगत ब्रांड नाम
2. परिवार ब्रांड नाम
3. कॉर्पोरेट ब्रांड नाम
4. शब्द अंकीय नाम

**Options :**

485584148305. 1  
 485584148306. 2  
 485584148307. 3  
 485584148308. 4

**Question Number : 383 Question Id : 48558437078 Question Type : MCQ Option Shuffling : No Is Question Mandatory : No Calculator : None Response Time : N.A Think Time : N.A Minimum Instruction Time : 0**

**Correct Marks : 5 Wrong Marks : 1**

**Question Key Details :**

Key	Value
Comprehension	Comp2

Manish a graduate from Delhi university who had studied entrepreneurship as one of his subjects. He is fond of travelling. During one of his visits to North-east India, Manish was awe struck by the beauty of the north eastern states. He observed that the bamboo industries was flourishing in these state especially in the state of Nagaland. The products made of Bamboo were in great demand and had led to setting up of various micro and cottage industries. While staying in the hotel he read in one of the national daily/newspaper that the central Government is incentivizing industries under the 'ACT EAST POLICY'. To know more about the business environment he talked to a few locals and read a few popular blogs. He closely monitored the environment and identified an economic idea and read a few popular blogs. He closely monitored the environment and identified an economic idea can be implemented to create a profitable business enterprise. He plans to start a travel and tourism venture especially targeting the north eastern states. He plans to promote his venture online via various social networking sites. He has a blog page and dedicated it to the north eastern states. He is planning to name his firm "Meet the seven sisters" Impressed with Manish's blog, and his plans to start an entrepreneurial venture his friend Rhogsyd advised Manish to get legal protection and exclusive right against misuse of the firm's name. He also advised him to meet Mrs. Malini a retired CEO of a reputed airlines for funding. Manish met Mrs. Malini who was impressed with his idea and she was willing to fund the venture in exchange of convertible debt . She understood that the venture had huge potential but it also involved huge risk. Along with funds Malini mentored and provided proactive advise and shared contact details of her acquaintances with Manish.

The investor Manish approached for funds is a \_\_\_\_\_

1. Angel investor
2. Venture capitalist
3. Banker
4. Trader

**Options :**

- 485584148309. 1
- 485584148310. 2
- 485584148311. 3
- 485584148312. 4

**Question Number : 383 Question Id : 48558437078 Question Type : MCQ Option Shuffling : No Is Question Mandatory : No Calculator : None Response Time : N.A Think Time : N.A Minimum Instruction Time : 0**

**Correct Marks : 5 Wrong Marks : 1**

**Question Key Details :**

Key	Value
Comprehension	Comp2

दिल्ली विश्वविद्यालय से स्नातक कर रहे मनीष ने एक विषय के रूप में उद्यमिता का अध्ययन किया है। वह यात्रा करने का शौकीन है। उत्तर-पूर्व भारत के अपने एक दौरे में वह उत्तर-पूर्वी राज्यों की सुंदरता से प्रभावित हुआ। उसने देखा कि इन राज्यों विशेषकर नागालैंड में बांस उत्पाद फल-फूल रहे हैं। बांस से बने उत्पादों की व्यापक माँग थी और इससे कई लघु और कुटीर उद्योग स्थापित हुए थे। होटल में ठहरते समय उसने एक राष्ट्रीय अखबार में पढ़ा कि केंद्रीय सरकार 'एक्ट ईस्ट नीति' के अंतर्गत उद्योगों को प्रोत्साहन दे रही है। व्यवसाय पर्यावरण के बारे में और अधिक जानने के लिए उसने स्थानीय लोगों से बात की और कुछ ब्लॉग पढ़े। उसने निकटता से व्यवसाय पर्यावरण को देखा और एक आर्थिक विचार को पहचाना जिसका लाभप्रद व्यवसाय उद्यम में कार्यान्वयन किया जा सकता है। वह पूर्वोत्तर राज्यों पर ध्यान देने वाला यात्रा और पर्यटन उद्यम शुरू करना चाहते हैं। वह विभिन्न सोशल नेटवर्किंग वेबसाइटों द्वारा अपने उद्यम का ऑनलाइन प्रचार करना चाहते हैं। उसने एक वेब पेज बनाया और इसे पूर्वोत्तर राज्यों को समर्पित किया। वह अपनी फर्म का नाम 'सात बहनों से मिलन' रखना चाहते हैं।

मनीष के ब्लॉग और उद्यमिता वेंचर शुरू करने की उसकी योजनाओं से प्रभावित होकर उसके मित्र रोमिंड ने फर्म के नाम का दुरुपयोग रोकने के लिए विधिक संरक्षण और अनन्य अधिकार प्राप्त करने का सुझाव दिया। उसने वित्तपोषण के लिए मनीष को एक प्रतिष्ठित कंपनी की सेवानिवृत्त सीईओ मिसेज मालिनी से मिले जो उसके विचार से प्रभावित हुई तथा संपरिवर्तनीय कर्ज/डेट के बदले में उसके उद्यम का वित्तपोषण करने को तैयार थी।

उसने समझा कि वेंचर में बहुत संभावना है किन्तु इसमें बड़ा जोखिम भी है। निधियों के अलावा मालिनी ने मनीष का मार्गदर्शन किया तथा अपने संपर्कों के विवरण साझा करने के साथ ही उसे सक्रियतापूर्वक सलाह प्रदान की।

मनीष ने निधियों के लिए एक \_\_\_\_\_ निवेशक से संपर्क किया।

1. एंजल निवेशक
2. वेंचर कैपिटलिस्ट
3. बैंकर
4. कारोबारी

**Options :**

485584148309. 1  
 485584148310. 2  
 485584148311. 3  
 485584148312. 4

Question Number : 384 Question Id : 48558437079 Question Type : MCQ Option Shuffling : No Is Question Mandatory : No Calculator : None Response Time : N.A Think Time : N.A Minimum Instruction Time : 0

Correct Marks : 5 Wrong Marks : 1

**Question Key Details :**

Key	Value
Comprehension	Comp2

Manish a graduate from Delhi university who had studied entrepreneurship as one of his subjects. He is fond of travelling. During one of his visits to North-east India, Manish was awe struck by the beauty of the north eastern states. He observed that the bamboo industries was flourishing in these state especially in the state of Nagaland. The products made of Bamboo were in great demand and had led to setting up of various micro and cottage industries. While staying in the hotel he read in one of the national daily/newspaper that the central Government is incentivizing industries under the 'ACT EAST POLICY'. To know more about the business environment he talked to a few locals and read a few popular blogs. He closely monitored the environment and identified an economic idea and read a few popular blogs. He closely monitored the environment and identified an economic idea can be implemented to create a profitable business enterprise. He plans to start a travel and tourism venture especially targeting the north eastern states. He plans to promote his venture online via various social networking sites. He has a blog page and dedicated it to the north eastern states. He is planning to name his firm "Meet the seven sisters" Impressed with Manish's blog, and his plans to start an entrepreneurial venture his friend Rhogsyd advised Manish to get legal protection and exclusive right against misuse of the firm's name. He also advised him to meet Mrs. Malini a retired CEO of a reputed airlines for funding. Manish met Mrs. Malini who was impressed with his idea and she was willing to fund the venture in exchange of convertible debt . She understood that the venture had huge potential but it also involved huge risk. Along with funds Malini mentored and provided proactive advise and shared contact details of her acquaintances with Manish.

Manish proposes to start the firm all by himself. Identify the form of business organization.

1. Sole proprietor
2. Partnership
3. Private company
4. Public company

**Options :**

- 485584148313. 1
- 485584148314. 2
- 485584148315. 3
- 485584148316. 4

Question Number : 384 Question Id : 48558437079 Question Type : MCQ Option Shuffling : No Is Question Mandatory : No Calculator : None Response Time : N.A Think Time : N.A Minimum Instruction Time : 0

Correct Marks : 5 Wrong Marks : 1

**Question Key Details :**

Key	Value
Comprehension	Comp2

दिल्ली विश्वविद्यालय से स्नातक कर रहे मनीष ने एक विषय के रूप में उद्यमिता का अध्ययन किया है। वह यात्रा करने का शौकीन है। उत्तर-पूर्व भारत के अपने एक दौरे में वह उत्तर-पूर्वी राज्यों की सुंदरता से प्रभावित हुआ। उसने देखा कि इन राज्यों विशेषकर नागालैंड में बांस उत्पाद फल-फूल रहे हैं। बांस से बने उत्पादों की व्यापक माँग थी और इससे कई लघु और कुटीर उद्योग स्थापित हुए थे। होटल में ठहरते समय उसने एक राष्ट्रीय अखबार में पढ़ा कि केंद्रीय सरकार 'एक्ट ईस्ट नीति' के अंतर्गत उद्योगों को प्रोत्साहन दे रही है। व्यवसाय पर्यावरण के बारे में और अधिक जानने के लिए उसने स्थानीय लोगों से बात की और कुछ ब्लॉग पढ़े। उसने निकटता से व्यवसाय पर्यावरण को देखा और एक आर्थिक विचार को पहचाना जिसका लाभप्रद व्यवसाय उद्यम में कार्यान्वयन किया जा सकता है। वह पूर्वोत्तर राज्यों पर ध्यान देने वाला यात्रा और पर्यटन उद्यम शुरू करना चाहते हैं। वह विभिन्न सोशल नेटवर्किंग वेबसाइटों द्वारा अपने उद्यम का ऑनलाइन प्रचार करना चाहते हैं। उसने एक वेब पेज बनाया और इसे पूर्वोत्तर राज्यों को समर्पित किया। वह अपनी फर्म का नाम 'सात बहनों से मिलन' रखना चाहते हैं।

मनीष के ब्लॉग और उद्यमिता वेंचर शुरू करने की उसकी योजनाओं से प्रभावित होकर उसके मित्र रोमिंड ने फर्म के नाम का दुरुपयोग रोकने के लिए विधिक संरक्षण और अनन्य अधिकार प्राप्त करने का सुझाव दिया। उसने वित्तपोषण के लिए मनीष को एक प्रतिष्ठित कंपनी की सेवानिवृत्त सीईओ मिसेज मालिनी से मिले जो उसके विचार से प्रभावित हुई तथा संपरिवर्तनीय कर्ज/डेट के बदले में उसके उद्यम का वित्तपोषण करने को तैयार थी।

उसने समझा कि वेंचर में बहुत संभावना है किन्तु इसमें बड़ा जोखिम भी है। निधियों के अलावा मालिनी ने मनीष का मार्गदर्शन किया तथा अपने संपर्कों के विवरण साझा करने के साथ ही उसे सक्रियतापूर्वक सलाह प्रदान की।

मनीष केवल अपने द्वारा फर्म शुरू करना चाहता है। व्यवसाय संगठन के प्रकार की पहचान करें।

1. एकमात्र स्वामित्व प्रोप्राइटरशिप
2. साझेदारी
3. निजी कंपनी
4. सार्वजनिक कंपनी

Options :

485584148313. 1  
 485584148314. 2  
 485584148315. 3  
 485584148316. 4

Question Number : 385 Question Id : 48558437080 Question Type : MCQ Option Shuffling : No Is Question Mandatory : No Calculator : None Response Time : N.A Think Time : N.A Minimum Instruction Time : 0

Correct Marks : 5 Wrong Marks : 1

Question Key Details :

Key	Value
Comprehension	Comp2

Manish a graduate from Delhi university who had studied entrepreneurship as one of his subjects. He is fond of travelling. During one of his visits to North-east India, Manish was awe struck by the beauty of the north eastern states. He observed that the bamboo industries was flourishing in these state especially in the state of Nagaland. The products made of Bamboo were in great demand and had led to setting up of various micro and cottage industries. While staying in the hotel he read in one of the national daily/newspaper that the central Government is incentivizing industries under the 'ACT EAST POLICY'. To know more about the business environment he talked to a few locals and read a few popular blogs. He closely monitored the environment and identified an economic idea and read a few popular blogs. He closely monitored the environment and identified an economic idea can be implemented to create a profitable business enterprise. He plans to start a travel and tourism venture especially targeting the north eastern states. He plans to promote his venture online via various social networking sites. He has a blog page and dedicated it to the north eastern states. He is planning to name his firm "Meet the seven sisters" Impressed with Manish's blog, and his plans to start an entrepreneurial venture his friend Rhogsyd advised Manish to get legal protection and exclusive right against misuse of the firm's name. He also advised him to meet Mrs. Malini a retired CEO of a reputed airlines for funding. Manish met Mrs. Malini who was impressed with his idea and she was willing to fund the venture in exchange of convertible debt. She understood that the venture had huge potential but it also involved huge risk. Along with funds Malini mentored and provided proactive advise and shared contact details of her acquaintances with Manish.

Manish proposes to start the firm all by himself. What would be the form of business organization of Rhogsd joined along with him and shred profits and losses and had unlimited liability.

1. Sole proprietorship
2. Partnership
3. Private company
4. Public company

**Options :**

- 485584148317. 1
- 485584148318. 2
- 485584148319. 3
- 485584148320. 4

**Question Number : 385 Question Id : 48558437080 Question Type : MCQ Option Shuffling : No Is Question Mandatory : No Calculator : None Response Time : N.A Think Time : N.A Minimum Instruction Time : 0**

**Correct Marks : 5 Wrong Marks : 1**

**Question Key Details :**

Key	Value
Comprehension	Comp2



दिल्ली विश्वविद्यालय से स्नातक कर रहे मनीष ने एक विषय के रूप में उद्यमिता का अध्ययन किया है। वह यात्रा करने का शौकीन है। उत्तर-पूर्व भारत के अपने एक दीरे में वह उत्तर-पूर्वी राज्यों की सुंदरता से प्रभावित हुआ। उसने देखा कि इन राज्यों विशेषकर नागालैंड में बांस उत्पाद फल-फूल रहे हैं। बांस से बने उत्पादों की व्यापक माँग थी और इससे कई लघु और कुटीर उद्योग स्थापित हुए थे। होटल में ठहरते समय उसने एक राष्ट्रीय अखबार में पढ़ा कि केंद्रीय सरकार 'एक्ट ईस्ट नीति' के अंतर्गत उद्योगों को प्रोत्साहन दे रही है। व्यवसाय पर्यावरण के बारे में और अधिक जानने के लिए उसने स्थानीय लोगों से बात की और कुछ ब्लॉग पढ़े। उसने निकटता से व्यवसाय पर्यावरण को देखा और एक आर्थिक विचार को पहचाना जिसका लाभप्रद व्यवसाय उद्यम में कार्यान्वयन किया जा सकता है। वह पूर्वोत्तर राज्यों पर ध्यान देने वाला यात्रा और पर्यटन उद्यम शुरू करना चाहते हैं। वह विभिन्न सोशल नेटवर्किंग वेबसाइटों द्वारा अपने उद्यम का ऑनलाइन प्रचार करना चाहते हैं। उसने एक वेब पेज बनाया और इसे पूर्वोत्तर राज्यों को समर्पित किया। वह अपनी फर्म का नाम 'सात बहनों से मिलन' रखना चाहते हैं।

मनीष के ब्लॉग और उद्यमिता वेंचर शुरू करने की उसकी योजनाओं से प्रभावित होकर उसके मित्र रोमिंड ने फर्म के नाम का दुरुपयोग रोकने के लिए विधिक संरक्षण और अनन्य अधिकार प्राप्त करने का सुझाव दिया। उसने वित्तपोषण के लिए मनीष को एक प्रतिष्ठित कंपनी की सेवानिवृत्त सीईओ मिसेज मालिनी से मिले जो उसके विचार से प्रभावित हुई तथा संपरिवर्तनीय कर्ज/डेट के बदले में उसके उद्यम का वित्तपोषण करने को तैयार थी।

उसने समझा कि वेंचर में बहुत संभावना है किन्तु इसमें बड़ा जोखिम भी है। निधियों के अलावा मालिनी ने मनीष का मार्गदर्शन किया तथा अपने संपर्कों के विवरण साझा करने के साथ ही उसे सक्रियतापूर्वक सलाह प्रदान की।

मनीष केवल अपने द्वारा फर्म शुरू करना चाहता है। यदि रोमिंड भी उसके साथ आता है तथा लाभ और हानि साझा करता है और असीमित देयता होती है, तो यह किस प्रकार का व्यवसाय संगठन होगा।

1. एकमात्र स्वामित्व/प्रोप्राइटरशिप
2. साझेदारी
3. निजी कंपनी
4. सार्वजनिक कंपनी

**Options :**

485584148317. 1  
485584148318. 2  
485584148319. 3  
485584148320. 4

## Fine Arts

<b>Group Number :</b>	8
<b>Group Id :</b>	485584857
<b>Group Maximum Duration :</b>	45
<b>Group Minimum Duration :</b>	45
<b>Show Attended Group? :</b>	No
<b>Edit Attended Group? :</b>	No
<b>Break time :</b>	0
<b>Group Marks :</b>	200
<b>Is this Group for Examiner? :</b>	No
<b>Examiner permission :</b>	Cant View
<b>Show Progress Bar? :</b>	No

## Fine Arts

<b>Section Id :</b>	485584987
<b>Section Number :</b>	1
<b>Section type :</b>	Online
<b>Mandatory or Optional :</b>	Mandatory
<b>Number of Questions :</b>	50

Number of Questions to be attempted : 40  
Section Marks : 200  
Enable Mark as Answered Mark for Review and Clear Response : Yes  
Maximum Instruction Time : 0  
Sub-Section Number : 1  
Sub-Section Id : 4855842810  
Question Shuffling Allowed : Yes  
Is Section Default? : null

Question Number : 386 Question Id : 48558436136 Question Type : MCQ Option Shuffling : No Is Question Mandatory : No Calculator : None  
Response Time : N.A Think Time : N.A Minimum Instruction Time : 0

Correct Marks : 5 Wrong Marks : 1

Question Key Details :

Key	Value
Comprehension	MCQ1

Guaman belongs to which Sub-School of Rajasthani Schools of miniature painting "Rama meets members of his family at Chitrakut?"

1. Bundi
2. Bikaner
3. Jaipur
4. Ajmer

Options :

485584144541. 1  
485584144542. 2  
485584144543. 3  
485584144544. 4

Question Number : 386 Question Id : 48558436136 Question Type : MCQ Option Shuffling : No Is Question Mandatory : No Calculator : None  
Response Time : N.A Think Time : N.A Minimum Instruction Time : 0

Correct Marks : 5 Wrong Marks : 1

Question Key Details :

Key	Value
Comprehension	MCQ1

"राम अपने परिवार के सदस्यों से चित्रकूट में मिलते हैं" राजस्थानी लघु चित्रकला की किस उप-शैली से गुमन सम्बंधित है?

1. बुंदी
2. बीकानेर
3. जयपुर
4. अजमेर

Options :

485584144541. 1  
485584144542. 2  
485584144543. 3  
485584144544. 4

Question Number : 386 Question Id : 48558436136 Question Type : MCQ Option Shuffling : No Is Question Mandatory : No Calculator : None  
Response Time : N.A Think Time : N.A Minimum Instruction Time : 0

Correct Marks : 5 Wrong Marks : 1

Question Key Details :

Key	Value
Comprehension	MCQ1

ৰাজস্থানী শৈলীৰ মিনিএচিউৰ চিত্ৰশিল্পৰ "ৰামে চিত্ৰকৃত্ত পৰিয়ালক লগ কৰা উপবিদ্যালয়খনৰ নাম লিখা ?

1. বৃন্দ
2. বিকানৈৰ
3. জয়পুৰ
4. আজমৈৰ

Options :

485584144541. 1  
485584144542. 2  
485584144543. 3  
485584144544. 4

Question Number : 386 Question Id : 48558436136 Question Type : MCQ Option Shuffling : No Is Question Mandatory : No Calculator : None Response Time : N.A Think Time : N.A Minimum Instruction Time : 0

Correct Marks : 5 Wrong Marks : 1

Question Key Details :

Key	Value
Comprehension	MCQ1

ৰাম মিতস মেমবাস অফ হিন্স ফেমেলা অ্যাট চিত্ৰকৃত্ত মিনিয়েচাৰ পেণ্টিং .এৰ শিল্পী ৰাজস্থানী স্কুলেৰ মথো কোন স্যাব স্কুলেৰ সদস্য ছিল ?

1. বৃন্দ
2. বিকানৈৰ
3. জয়পুৰ
4. আজমীৰ

Options :

485584144541. 1  
485584144542. 2  
485584144543. 3  
485584144544. 4

Question Number : 386 Question Id : 48558436136 Question Type : MCQ Option Shuffling : No Is Question Mandatory : No Calculator : None Response Time : N.A Think Time : N.A Minimum Instruction Time : 0

Correct Marks : 5 Wrong Marks : 1

Question Key Details :

Key	Value
Comprehension	MCQ1

সুমান ৰাজস্থাননু লঘু যিত্ৰ পেঠন্টিং "যিত্ৰকৃত্ত খাতে ৰাম তেমনা পৰিবাৰজনীনে মণে ষে." নী পেটা স্কুল কঠ ষে ?

1. ঞুদী
2. ঞিকানৈৰ
3. জয়পুৰ
4. আজমৈৰ

Options :

485584144541. 1  
485584144542. 2  
485584144543. 3

Question Number : 386 Question Id : 48558436136 Question Type : MCQ Option Shuffling : No Is Question Mandatory : No Calculator : None  
Response Time : N.A Think Time : N.A Minimum Instruction Time : 0

Correct Marks : 5 Wrong Marks : 1

Question Key Details :

Key	Value
Comprehension	MCQ1

"ರಾಮನು ತನ್ನ ಕುಟುಂಬದ ಸದಸ್ಯರನ್ನು ಚಿತ್ರಕೂಟದಲ್ಲಿ ಭೇಟಿಯಾಗುವ ಬೆಕನೇ/ಕಿರುಚಿತ್ರಕಲೆಯ ಗುಮಾಸ್ತನೇನು ಯಾವ ರಾಜ್ಯದ ಸರ್ಕಾರದ ಅಧೀನದಲ್ಲಿರುತ್ತಾನೆ?"

1. ಬುಂದಿ
2. ಬೆಕನೇ
3. ಜೈಪುರ
4. ಅಜ್ಮೀರ

Options :

485584144541. 1  
485584144542. 2  
485584144543. 3  
485584144544. 4

Question Number : 386 Question Id : 48558436136 Question Type : MCQ Option Shuffling : No Is Question Mandatory : No Calculator : None  
Response Time : N.A Think Time : N.A Minimum Instruction Time : 0

Correct Marks : 5 Wrong Marks : 1

Question Key Details :

Key	Value
Comprehension	MCQ1

"ರಾಮನು, ಪಿ.ಐ.ಐ.ಟಿ.ನಲ್ಲಿ ತನ್ನ ಕುಟುಂಬದ ಸದಸ್ಯರನ್ನು ಚಿತ್ರಕೂಟದಲ್ಲಿ ಭೇಟಿಯಾಗುವ ಬೆಕನೇ/ಕಿರುಚಿತ್ರಕಲೆಯ ಗುಮಾಸ್ತನೇನು ಯಾವ ರಾಜ್ಯದ ಸರ್ಕಾರದ ಅಧೀನದಲ್ಲಿರುತ್ತಾನೆ?"

1. ಬುಂದಿ
2. ಬೆಕನೇ
3. ಜೈಪುರ
4. ಅಜ್ಮೀರ

Options :

485584144541. 1  
485584144542. 2  
485584144543. 3  
485584144544. 4

Question Number : 386 Question Id : 48558436136 Question Type : MCQ Option Shuffling : No Is Question Mandatory : No Calculator : None  
Response Time : N.A Think Time : N.A Minimum Instruction Time : 0

Correct Marks : 5 Wrong Marks : 1

Question Key Details :

Key	Value
Comprehension	MCQ1

"राम चित्रकूट येथे त्यांच्या कुटुंबातील सदस्यांना भेटतो" हा गुमान चित्रकला प्रकार राजस्थानी लघु चित्रकलेतील कोणत्या उप शाळेत येतो?

1. बूंदी
2. बिकानेर
3. जयपूर
4. अजमेर

**Options :**

485584144541. 1  
485584144542. 2  
485584144543. 3  
485584144544. 4

**Question Number : 386 Question Id : 48558436136 Question Type : MCQ Option Shuffling : No Is Question Mandatory : No Calculator : None Response Time : N.A Think Time : N.A Minimum Instruction Time : 0**

**Correct Marks : 5 Wrong Marks : 1**

**Question Key Details :**

Key	Value
Comprehension	MCQ1

सुमान वरवीं ठर-बुद्धि वाढवता तीर्थावर विठ्ठला वरिष्ठ वसूळ थुला ? वेळथुंवेळ "राम विठ्ठलवळ ठाळ ठरिवाळर वरवथुंवेळ वेळथुंवेळ"।

1. बूंदी
2. बिकानेर
3. जयपूर
4. अजमेर

**Options :**

485584144541. 1  
485584144542. 2  
485584144543. 3  
485584144544. 4

**Question Number : 386 Question Id : 48558436136 Question Type : MCQ Option Shuffling : No Is Question Mandatory : No Calculator : None Response Time : N.A Think Time : N.A Minimum Instruction Time : 0**

**Correct Marks : 5 Wrong Marks : 1**

**Question Key Details :**

Key	Value
Comprehension	MCQ1

राजसथानी लघु चिंतुर सवुळ \* तिस वरिष्ठ राम आपठे परिवावर से भेवठां ठुं चिंतुरकूट ते भिलिआ \* इस वरिष्ठ गुमन बिरजे सध-सवुळ नाल संधिपत ठे।

1. बूंदी
2. बीकानेरी
3. जयपुर
4. अजमेर

**Options :**

485584144541. 1  
485584144542. 2  
485584144543. 3  
485584144544. 4

Question Number : 386 Question Id : 48558436136 Question Type : MCQ Option Shuffling : No Is Question Mandatory : No Calculator : None  
Response Time : N.A Think Time : N.A Minimum Instruction Time : 0

Correct Marks : 5 Wrong Marks : 1

Question Key Details :

Key	Value
Comprehension	MCQ1

சுமான் என்பவர் "இராமா மீடல் மெம்பர்ஸ் ஆஃப் ஹிஸ் ஃபாயிவி அட் சித்ர கூட்"  
எனும் இராஜஸ்தானிய நுண்கலை ஓவியத்திற்கு ஆன் எந்த துணைப்பள்ளியைச்  
சார்ந்தவர் ஆவார்?

1. புந்தி
2. பிகானெர்
3. ஜெய்பூர்
4. அஜ்மீர்

Options :

485584144541. 1  
485584144542. 2  
485584144543. 3  
485584144544. 4

Question Number : 386 Question Id : 48558436136 Question Type : MCQ Option Shuffling : No Is Question Mandatory : No Calculator : None  
Response Time : N.A Think Time : N.A Minimum Instruction Time : 0

Correct Marks : 5 Wrong Marks : 1

Question Key Details :

Key	Value
Comprehension	MCQ1

"ராமுடு வித்ரகூலில் தன் குலுமல்த் கலவடம்" அந் சூக்ஷ் வர்ஷ் வித்ரானிகி சம்பந்திவி. ருமன்  
ராஜஸ்தான் லீனி வி ஊப் பாதசாலகி தெந்திசவாடு?

1. டுண்டி
2. விகநர்
3. ஜெய்பூர்
4. அஜ்மீர்

Options :

485584144541. 1  
485584144542. 2  
485584144543. 3  
485584144544. 4

Question Number : 386 Question Id : 48558436136 Question Type : MCQ Option Shuffling : No Is Question Mandatory : No Calculator : None  
Response Time : N.A Think Time : N.A Minimum Instruction Time : 0

Correct Marks : 5 Wrong Marks : 1

Question Key Details :

Key	Value
Comprehension	MCQ1

گمن کس راجستھانی چھوٹی سیمہ پیشنگ کا ذیلی اسکول سے تعلق رکھتا ہے " راما اپنے خاندان سے چتر گٹھ میں ملا ؟

1. لدھی
2. بیکنیر
3. جے پور
4. اجمیر

**Options :**

485584144541. 1
485584144542. 2
485584144543. 3
485584144544. 4

**Question Number : 387 Question Id : 48558436137 Question Type : MCQ Option Shuffling : No Is Question Mandatory : No Calculator : None Response Time : N.A Think Time : N.A Minimum Instruction Time : 0**

**Correct Marks : 5 Wrong Marks : 1**

**Question Key Details :**

Key	Value
Comprehension	MCQ1

Which of the following area has no traces of painting of Pahari School?

1. Chamba
2. Basohli
3. Kangra
4. Jodhpur

**Options :**

485584144545. 1
485584144546. 2
485584144547. 3
485584144548. 4

**Question Number : 387 Question Id : 48558436137 Question Type : MCQ Option Shuffling : No Is Question Mandatory : No Calculator : None Response Time : N.A Think Time : N.A Minimum Instruction Time : 0**

**Correct Marks : 5 Wrong Marks : 1**

**Question Key Details :**

Key	Value
Comprehension	MCQ1

निम्न में से किस क्षेत्र में पहाड़ी शैली की चित्रकला के चिह्न नहीं हैं?

1. चंबा
2. बसोहली
3. कांगड़ा
4. जोधपुर

**Options :**

485584144545. 1
485584144546. 2
485584144547. 3
485584144548. 4

Question Number : 387 Question Id : 48558436137 Question Type : MCQ Option Shuffling : No Is Question Mandatory : No Calculator : None  
Response Time : N.A Think Time : N.A Minimum Instruction Time : 0

Correct Marks : 5 Wrong Marks : 1

Question Key Details :

Key	Value
Comprehension	MCQ1

তলৰ কোনটো পাহাৰী জ্বলাৰ চিহ্নশিল্প প্ৰভাৱ নথকা অঞ্চল হয় ?

1. চাঘা
2. বাচলি
3. কাংগৰা
4. যোৰপুৰ

Options :

485584144545. 1

485584144546. 2

485584144547. 3

485584144548. 4

Question Number : 387 Question Id : 48558436137 Question Type : MCQ Option Shuffling : No Is Question Mandatory : No Calculator : None  
Response Time : N.A Think Time : N.A Minimum Instruction Time : 0

Correct Marks : 5 Wrong Marks : 1

Question Key Details :

Key	Value
Comprehension	MCQ1

এদের মধ্যে কোন জায়গা, পাহাড়ী জ্বলাৰ পেন্টিং -এৰ সাবে কোনো ভাবে জুড়ে নেই ?

1. চাঘা
2. বাশোলি
3. কাংগা
4. যোৰপুৰ

Options :

485584144545. 1

485584144546. 2

485584144547. 3

485584144548. 4

Question Number : 387 Question Id : 48558436137 Question Type : MCQ Option Shuffling : No Is Question Mandatory : No Calculator : None  
Response Time : N.A Think Time : N.A Minimum Instruction Time : 0

Correct Marks : 5 Wrong Marks : 1

Question Key Details :

Key	Value
Comprehension	MCQ1



നീയെ അപേക്ഷിച്ച് കൂടുതൽ വിസ്തൃതിയുള്ള സ്കൂൾ പെർമിറ്റിംഗിനെ കുറിച്ച് എന്താണ് ശരി ?

1. ചെന്നൈ
2. കോഴിക്കോട്
3. കോട്ടയം
4. തൃശ്ശൂർ

Options :

485584144545. 1
485584144546. 2
485584144547. 3
485584144548. 4

Question Number : 387 Question Id : 48558436137 Question Type : MCQ Option Shuffling : No Is Question Mandatory : No Calculator : None Response Time : N.A Think Time : N.A Minimum Instruction Time : 0

Correct Marks : 5 Wrong Marks : 1

Question Key Details :

Key	Value
Comprehension	MCQ1

കുറഞ്ഞ വിലയ്ക്ക് വിൽക്കുന്നതിനായി, പലർക്കും അറിയാതെ വിൽക്കുന്നതിനായി ഉപയോഗിക്കുന്ന മാർഗ്ഗം ഏത് ?

1. കോൺസൈം
2. കോൺസൈം
3. കോൺസൈം
4. കോൺസൈം

Options :

485584144545. 1
485584144546. 2
485584144547. 3
485584144548. 4

Question Number : 387 Question Id : 48558436137 Question Type : MCQ Option Shuffling : No Is Question Mandatory : No Calculator : None Response Time : N.A Think Time : N.A Minimum Instruction Time : 0

Correct Marks : 5 Wrong Marks : 1

Question Key Details :

Key	Value
Comprehension	MCQ1

പുതിയ സമ്പ്രദായത്തിലുള്ള പെയ്മെന്റിങ്ങുകളുടെ തിരച്ചിലുകൾ ലഭ്യമാക്കുന്നതിനായി ഏത് മാർഗ്ഗം ഉപയോഗിക്കുന്നു ?

1. കോൺസൈം
2. കോൺസൈം
3. കോൺസൈം
4. കോൺസൈം

Options :

485584144545. 1
485584144546. 2
485584144547. 3

485584144548.4

Question Number : 387 Question Id : 48558436137 Question Type : MCQ Option Shuffling : No Is Question Mandatory : No Calculator : None  
Response Time : N.A Think Time : N.A Minimum Instruction Time : 0

Correct Marks : 5 Wrong Marks : 1

Question Key Details :

Key	Value
Comprehension	MCQ1

खारील पैकी कशात पहाडी शाकेतील गंध अजिबात सापडत नाही?

1. चंबा
2. बासोहली
3. कांगडा
4. जोधपूर

Options :

485584144545. 1  
485584144546. 2  
485584144547. 3  
485584144548. 4

Question Number : 387 Question Id : 48558436137 Question Type : MCQ Option Shuffling : No Is Question Mandatory : No Calculator : None  
Response Time : N.A Think Time : N.A Minimum Instruction Time : 0

Correct Marks : 5 Wrong Marks : 1

Question Key Details :

Key	Value
Comprehension	MCQ1

ନିମ୍ନଲିଖିତ ଅଞ୍ଚଳ ମଧ୍ୟରୁ କେଉଁଠିରେ ପଞ୍ଚମୀ ବିଦ୍ୟାରର ବିଦ୍ରୁ ଆଦିବାସ କୈଶିକ ବିଦ୍ର ନାହିଁ ?

1. ବସ୍ତ
2. ବରଦାହଳା
3. ଭାରତ
4. ଭୋଧପୁର

Options :

485584144545. 1  
485584144546. 2  
485584144547. 3  
485584144548. 4

Question Number : 387 Question Id : 48558436137 Question Type : MCQ Option Shuffling : No Is Question Mandatory : No Calculator : None  
Response Time : N.A Think Time : N.A Minimum Instruction Time : 0

Correct Marks : 5 Wrong Marks : 1

Question Key Details :

Key	Value
Comprehension	MCQ1



Question Number : 387 Question Id : 48558436137 Question Type : MCQ Option Shuffling : No Is Question Mandatory : No Calculator : None  
Response Time : N.A Think Time : N.A Minimum Instruction Time : 0

Correct Marks : 5 Wrong Marks : 1

Question Key Details :

Key	Value
Comprehension	MCQ1

کس علاقے میں بناری اسکول کی بیننگ کا کوئی نشان نہیں ہے ؟

1. چمپا
2. بسولی
3. کنگڑہ
4. جرنپور

Options :

485584144545. 1  
485584144546. 2  
485584144547. 3  
485584144548. 4

Question Number : 388 Question Id : 48558436138 Question Type : MCQ Option Shuffling : No Is Question Mandatory : No Calculator : None  
Response Time : N.A Think Time : N.A Minimum Instruction Time : 0

Correct Marks : 5 Wrong Marks : 1

Question Key Details :

Key	Value
Comprehension	MCQ1

The artist S.H. Raza made paintings on the theme bindu which symbolizes.

1. Human
2. Oneness
3. Strength
4. Unity

Options :

485584144549. 1  
485584144550. 2  
485584144551. 3  
485584144552. 4

Question Number : 388 Question Id : 48558436138 Question Type : MCQ Option Shuffling : No Is Question Mandatory : No Calculator : None  
Response Time : N.A Think Time : N.A Minimum Instruction Time : 0

Correct Marks : 5 Wrong Marks : 1

Question Key Details :

Key	Value
Comprehension	MCQ1

कलाकार एच.एस.रजा द्वारा बिंदु विषयवस्तु पर बनाई गई चित्रकला किसकी प्रतीकात्मक है?

1. मानव
2. एकरूप
3. शक्ति
4. एकता

**Options :**

485584144549. 1  
485584144550. 2  
485584144551. 3  
485584144552. 4

**Question Number : 388 Question Id : 48558436138 Question Type : MCQ Option Shuffling : No Is Question Mandatory : No Calculator : None Response Time : N.A Think Time : N.A Minimum Instruction Time : 0**

**Correct Marks : 5 Wrong Marks : 1**

**Question Key Details :**

Key	Value
Comprehension	MCQ1

চিত্রশিল্পী S.H. Raza য়ে কোনটো বিষয়ৰ গুপৰত ভিত্তি কৰি অংকন কৰিছিল ?

1. মানুহ
2. নিজস্ব
3. শক্তি
4. একতা

**Options :**

485584144549. 1  
485584144550. 2  
485584144551. 3  
485584144552. 4

**Question Number : 388 Question Id : 48558436138 Question Type : MCQ Option Shuffling : No Is Question Mandatory : No Calculator : None Response Time : N.A Think Time : N.A Minimum Instruction Time : 0**

**Correct Marks : 5 Wrong Marks : 1**

**Question Key Details :**

Key	Value
Comprehension	MCQ1

রাজা বিন্দু যিমে যেই পেন্টিং তৈরী করে তা কি সম্বন্ধে উল্লেখ করে ?

1. মানুষ
2. অখণ্ডতা
3. শক্তি
4. একতা

**Options :**

485584144549. 1  
485584144550. 2  
485584144551. 3  
485584144552. 4

Question Number : 388 Question Id : 48558436138 Question Type : MCQ Option Shuffling : No Is Question Mandatory : No Calculator : None  
Response Time : N.A Think Time : N.A Minimum Instruction Time : 0

Correct Marks : 5 Wrong Marks : 1

Question Key Details :

Key	Value
Comprehension	MCQ1

કલાકાર રજાએ બિન્દુ થીમ પર ચિત્રો બનાવ્યા છે જે ના પ્રતિક છે.

1. માનવી
2. એકતા
3. તીક્ષ્ણ
4. સ્નેહ

Options :

485584144549. 1  
485584144550. 2  
485584144551. 3  
485584144552. 4

Question Number : 388 Question Id : 48558436138 Question Type : MCQ Option Shuffling : No Is Question Mandatory : No Calculator : None  
Response Time : N.A Think Time : N.A Minimum Instruction Time : 0

Correct Marks : 5 Wrong Marks : 1

Question Key Details :

Key	Value
Comprehension	MCQ1

રાજા ಎಂಬ કલાવીદ બિંદુ એક એક વસ્તુવિન મેલે રજાસીરુવ ઝીત્રકલેગલુ સંકેતીસુવુદુ  
જદનુઃ

1. મોનવ
2. બંદુ એક ભાવને
3. બલ
4. ઇચ્છે

Options :

485584144549. 1  
485584144550. 2  
485584144551. 3  
485584144552. 4

Question Number : 388 Question Id : 48558436138 Question Type : MCQ Option Shuffling : No Is Question Mandatory : No Calculator : None  
Response Time : N.A Think Time : N.A Minimum Instruction Time : 0

Correct Marks : 5 Wrong Marks : 1

Question Key Details :

Key	Value
Comprehension	MCQ1

ബിന്ദു എന്ന പ്രമേയത്തിൽ ആർട്ടിസ്റ്റ് റാസ തയ്യാറാക്കിയ പെയിന്റിംഗുകൾ എന്തിന്റെ പ്രതീകങ്ങളാണ് ?

1. മനുഷ്യൻ
2. ഒരുമ
3. ശക്തി
4. ന്യൂനത

Options :

485584144549. 1  
485584144550. 2  
485584144551. 3  
485584144552. 4

Question Number : 388 Question Id : 48558436138 Question Type : MCQ Option Shuffling : No Is Question Mandatory : No Calculator : None Response Time : N.A Think Time : N.A Minimum Instruction Time : 0

Correct Marks : 5 Wrong Marks : 1

Question Key Details :

Key	Value
Comprehension	MCQ1

रक्षा या कलाकाराने बिंदू बीजकल्पना मांडली जी खालील पैकी कशाचे प्रतिक आहे?

1. मनुष्य
2. एकरूपता
3. ताकद
4. ऐष

Options :

485584144549. 1  
485584144550. 2  
485584144551. 3  
485584144552. 4

Question Number : 388 Question Id : 48558436138 Question Type : MCQ Option Shuffling : No Is Question Mandatory : No Calculator : None Response Time : N.A Think Time : N.A Minimum Instruction Time : 0

Correct Marks : 5 Wrong Marks : 1

Question Key Details :

Key	Value
Comprehension	MCQ1

ଚିତ୍ରଶିଳ୍ପୀ ଏସ. ଏଚ. ରାଜା ବିନ୍ଦୁ ଚିତ୍ର ଉପରେ ଚିତ୍ର ଆଙ୍କିଥିଲେ ଯାହା ପ୍ରତୀକ ଅଟେ।

1. ମଣିଷ
2. ଏକତା
3. ବଳ
4. ଏକତା

Options :

485584144549. 1  
485584144550. 2

485584144551.3  
485584144552.4

Question Number : 388 Question Id : 48558436138 Question Type : MCQ Option Shuffling : No Is Question Mandatory : No Calculator : None  
Response Time : N.A Think Time : N.A Minimum Instruction Time : 0

Correct Marks : 5 Wrong Marks : 1

Question Key Details :

Key	Value
Comprehension	MCQ1

ਕਲਾਕਾਰ ਐਸ. ਐਚ. ਰਜਾ ਨੇ ਖਿੱਚੇ ਸਿਰਲੇਖ ਦੀ ਚਿਤਰਕਾਰੀ ਕੀਤੀ ਜੋ ਦਰਸਾਉਂਦੀ ਹੈ?

1. ਮਨੁੱਖੀ
2. ਏਕਤਾ
3. ਸ਼ਕਤੀ
4. ਏਕਾ

Options :

485584144549.1  
485584144550.2  
485584144551.3  
485584144552.4

Question Number : 388 Question Id : 48558436138 Question Type : MCQ Option Shuffling : No Is Question Mandatory : No Calculator : None  
Response Time : N.A Think Time : N.A Minimum Instruction Time : 0

Correct Marks : 5 Wrong Marks : 1

Question Key Details :

Key	Value
Comprehension	MCQ1

ਪਿੰਨ੍ਹੂ ਈਨੁਯੰ ਕਰੁਠੁ ਪੋਪਾਰੂਨ ਕੋਕਾਨੁੰਡ ਕਲੇਲੁਰੁੰ ਈਰਾਚਾ ਊਰੁਵਾਕੰਘੁਯੁਓਵਿਯਾਨੁੰਗਨੁੰ  
ਈਠੇਚੁੰ ਚਿੱਠੁਰਿੱਪਪੁਠੁ :

1. ਮਨੀਠ ਨੇਠਯਮੁੰ
2. ਓਨੁੰਰੁਪੁੱਡਿਰੁਠੁਠੁ
3. ਪਲਮੁੰ
4. ਓਨੁੰਰੁਠੁਠੁ

Options :

485584144549.1  
485584144550.2  
485584144551.3  
485584144552.4

Question Number : 388 Question Id : 48558436138 Question Type : MCQ Option Shuffling : No Is Question Mandatory : No Calculator : None  
Response Time : N.A Think Time : N.A Minimum Instruction Time : 0

Correct Marks : 5 Wrong Marks : 1

Question Key Details :

Key	Value
Comprehension	MCQ1



ಬಿಂದು ಅನೇ ವಿಷಯಂಪైన చిత్రకారుడు రాజా వేసిన చిత్రాలు దేనికి ప్రతీక?

1. మౌనపుడు
2. ఏకత్వము
3. బలము
4. ఐకమత్యము

Options :

485584144549. 1
485584144550. 2
485584144551. 3
485584144552. 4

Question Number : 388 Question Id : 48558436138 Question Type : MCQ Option Shuffling : No Is Question Mandatory : No Calculator : None Response Time : N.A Think Time : N.A Minimum Instruction Time : 0

Correct Marks : 5 Wrong Marks : 1

Question Key Details :

Key	Value
Comprehension	MCQ1

فن كرايس لچ رمضانے "بنو" (bindu) ٹیپم پیشگ بنائی ہے جو علامت کے طور پر بیان کرتا ہے۔

1. المائل
2. ایکنیا (روہنت)
3. طائف
4. اتحاد

Options :

485584144549. 1
485584144550. 2
485584144551. 3
485584144552. 4

Question Number : 389 Question Id : 48558436139 Question Type : MCQ Option Shuffling : No Is Question Mandatory : No Calculator : None Response Time : N.A Think Time : N.A Minimum Instruction Time : 0

Correct Marks : 5 Wrong Marks : 1

Question Key Details :

Key	Value
Comprehension	MCQ1

Among the following who coined the term "Rajput Painting" in 1926?

1. Anand Coomaraswamy
2. Keshav Das
3. Jagat Singh
4. Sahibdin

Options :

485584144553. 1
485584144554. 2
485584144555. 3
485584144556. 4

Question Number : 389 Question Id : 48558436139 Question Type : MCQ Option Shuffling : No Is Question Mandatory : No Calculator : None  
Response Time : N.A Think Time : N.A Minimum Instruction Time : 0

Correct Marks : 5 Wrong Marks : 1

Question Key Details :

Key	Value
Comprehension	MCQ1

1926 में निम्न में से किसने सर्वप्रथम "राजपूत चित्रकला" शब्दावली प्रचलित की?

1. आनंद कुमारस्वामी
2. केशवदास
3. जगत सिंह
4. साहिबदीन

Options :

485584144553. 1  
485584144554. 2  
485584144555. 3  
485584144556. 4

Question Number : 389 Question Id : 48558436139 Question Type : MCQ Option Shuffling : No Is Question Mandatory : No Calculator : None  
Response Time : N.A Think Time : N.A Minimum Instruction Time : 0

Correct Marks : 5 Wrong Marks : 1

Question Key Details :

Key	Value
Comprehension	MCQ1

১৯২৬ চনৰ "ৰাজপুত চিত্ৰশিল্প" কোনে উলিয়াইছিল ?

1. আনন্দ কমাৰ স্বামী
2. কেশৱ দাস
3. জগত সিং
4. শাহিন্দীন

Options :

485584144553. 1  
485584144554. 2  
485584144555. 3  
485584144556. 4

Question Number : 389 Question Id : 48558436139 Question Type : MCQ Option Shuffling : No Is Question Mandatory : No Calculator : None  
Response Time : N.A Think Time : N.A Minimum Instruction Time : 0

Correct Marks : 5 Wrong Marks : 1

Question Key Details :

Key	Value
Comprehension	MCQ1

1926 ತೆ ಕೆ "ರಾಜಪುತ ಪೆನ್ರಿಂಗ" ಕಥಾಟಾ ಉಸ್ತಾರನ ಕರೆಘೆ

1. ಆನಂದ ಕುಮಾರಸ್ವಾಮಿ
2. ಕೆಶವ ದಾಸ
3. ಜಗತ ಸಿಂಗ
4. ಸಾಹಿಬದಿನ

Options :

485584144553. 1  
485584144554. 2  
485584144555. 3  
485584144556. 4

Question Number : 389 Question Id : 48558436139 Question Type : MCQ Option Shuffling : No Is Question Mandatory : No Calculator : None  
Response Time : N.A Think Time : N.A Minimum Instruction Time : 0

Correct Marks : 5 Wrong Marks : 1

Question Key Details :

Key	Value
Comprehension	MCQ1

ನೀವೆ ಆಪೆವಾ ವಿಕಲ್ಪಾಂಥಿ 1926ರಾ ಡಿಜೆ "ರಾಜಪುತ ಪೆನ್ರಿಂಗ" ಶಾಢ್ ಆಪ್ಪಿ ಡಿ ?

1. ಆನಂದ ಕುಮಾರಸ್ವಾಮಿ
2. ಕೆಶವ ದಾಸ
3. ಜಗತ ಸಿಂಗ
4. ಸಾಹಿಬದಿನ

Options :

485584144553. 1  
485584144554. 2  
485584144555. 3  
485584144556. 4

Question Number : 389 Question Id : 48558436139 Question Type : MCQ Option Shuffling : No Is Question Mandatory : No Calculator : None  
Response Time : N.A Think Time : N.A Minimum Instruction Time : 0

Correct Marks : 5 Wrong Marks : 1

Question Key Details :

Key	Value
Comprehension	MCQ1

ಕೆಳಗಿನವರುಗಳಲ್ಲಿ ಯಾರು 1926ರಲ್ಲಿ "ರಜಪುತ ಚಿತ್ರಕಲೆ" ಎಂಬ ಪದವನ್ನು ಚಿಮ್ಮಿಸಿದನು?

1. ಆನಂದ ಕುಮಾರಸ್ವಾಮಿ
2. ಕೆಶವ ದಾಸ
3. ಜಗತ ಸಿಂಗ
4. ಸಾಹಿಬದಿನ

Options :

485584144553. 1  
485584144554. 2  
485584144555. 3  
485584144556. 4

Question Number : 389 Question Id : 48558436139 Question Type : MCQ Option Shuffling : No Is Question Mandatory : No Calculator : None Response Time : N.A Think Time : N.A Minimum Instruction Time : 0

Correct Marks : 5 Wrong Marks : 1

Question Key Details :

Key	Value
Comprehension	MCQ1

1926-ൽ "രജ്യത് പെയിന്റിങ്ങ്" എന്ന പദം സൃഷ്ടിച്ചത് ആരാണ് ?

1. ആനന്ദ് ഗോസ്വാമി
2. കേശവ ദാസ്
3. ജഗത് സിംഗ്
4. സാഹിബിന്ദിൻ

Options :

- 485584144553. 1
- 485584144554. 2
- 485584144555. 3
- 485584144556. 4

Question Number : 389 Question Id : 48558436139 Question Type : MCQ Option Shuffling : No Is Question Mandatory : No Calculator : None Response Time : N.A Think Time : N.A Minimum Instruction Time : 0

Correct Marks : 5 Wrong Marks : 1

Question Key Details :

Key	Value
Comprehension	MCQ1

खालील पैकी कोणी 1926 मध्ये "राजपूत चित्रकल" ही संज्ञा कोणी दिली?

1. आनंद चूमरास्वामी
2. केशव दास
3. जगत सिंग
4. साहिबदिन

Options :

- 485584144553. 1
- 485584144554. 2
- 485584144555. 3
- 485584144556. 4

Question Number : 389 Question Id : 48558436139 Question Type : MCQ Option Shuffling : No Is Question Mandatory : No Calculator : None Response Time : N.A Think Time : N.A Minimum Instruction Time : 0

Correct Marks : 5 Wrong Marks : 1

Question Key Details :

Key	Value
Comprehension	MCQ1



485584144555. 3

485584144556. 4

Question Number : 389 Question Id : 48558436139 Question Type : MCQ Option Shuffling : No Is Question Mandatory : No Calculator : None  
Response Time : N.A Think Time : N.A Minimum Instruction Time : 0

Correct Marks : 5 Wrong Marks : 1

Question Key Details :

Key	Value
Comprehension	MCQ1

1926 లో క్రిందివారిలో 'రాజపుత్ ప్రెజింగ్' అనే పదాన్ని రూపొందించినది ఎవరు ?

1. ఆనంద్ కుమారస్వామి
2. కేశవ దాస్
3. జగత్ సింగ్
4. సాహెబ్‌సాహెబ్

Options :

485584144553. 1

485584144554. 2

485584144555. 3

485584144556. 4

Question Number : 389 Question Id : 48558436139 Question Type : MCQ Option Shuffling : No Is Question Mandatory : No Calculator : None  
Response Time : N.A Think Time : N.A Minimum Instruction Time : 0

Correct Marks : 5 Wrong Marks : 1

Question Key Details :

Key	Value
Comprehension	MCQ1

نیچے میں سے کس نے سن 1926 میں "راجپوت پریسنگ" کی اصطلاح بنائی ؟

1. آنند کومر سوامی
2. کیشو داس
3. جگت سنگھ
4. صاحب سہاب

Options :

485584144553. 1

485584144554. 2

485584144555. 3

485584144556. 4

Question Number : 390 Question Id : 48558436140 Question Type : MCQ Option Shuffling : No Is Question Mandatory : No Calculator : None  
Response Time : N.A Think Time : N.A Minimum Instruction Time : 0

Correct Marks : 5 Wrong Marks : 1

Question Key Details :

Key	Value
Comprehension	MCQ1

"Nand, Yashoda and Krishna" painting belongs to which Sub School of Pahari School of miniature painting?

1. Chamba
2. Basohli
3. Kangra
4. Bundi

**Options :**

485584144557. 1  
485584144558. 2  
485584144559. 3  
485584144560. 4

**Question Number : 390 Question Id : 48558436140 Question Type : MCQ Option Shuffling : No Is Question Mandatory : No Calculator : None Response Time : N.A Think Time : N.A Minimum Instruction Time : 0**

**Correct Marks : 5 Wrong Marks : 1**

**Question Key Details :**

Key	Value
Comprehension	MCQ1

"नंद, यशोदा और कृष्ण" चित्रकला पहाड़ी लघु चित्रशैली की किस उप-शैली से सम्बंधित है?

1. चंबा
2. बसोहली
3. कांगड़ा
4. बूंदी

**Options :**

485584144557. 1  
485584144558. 2  
485584144559. 3  
485584144560. 4

**Question Number : 390 Question Id : 48558436140 Question Type : MCQ Option Shuffling : No Is Question Mandatory : No Calculator : None Response Time : N.A Think Time : N.A Minimum Instruction Time : 0**

**Correct Marks : 5 Wrong Marks : 1**

**Question Key Details :**

Key	Value
Comprehension	MCQ1

"নন্দ, যশোদা আৰু কৃষ্ণ" চিত্ৰশিল্পখন কোনখন উপবিদ্যালয়ৰ পাহাৰী শৈলীৰ মিনিএচিউৰ শিল্প ?

1. চাম্বা
2. বাসলি
3. কাংগৰা
4. বৃন্দী

**Options :**

485584144557. 1  
485584144558. 2  
485584144559. 3  
485584144560. 4

Question Number : 390 Question Id : 48558436140 Question Type : MCQ Option Shuffling : No Is Question Mandatory : No Calculator : None  
Response Time : N.A Think Time : N.A Minimum Instruction Time : 0

Correct Marks : 5 Wrong Marks : 1

Question Key Details :

Key	Value
Comprehension	MCQ1

"নন্দ যসথা এবং কৃষ্ণ" পেন্টিং টি পাহাড়ি স্কুলের মিনিয়েচার পেন্টিং এর কোন স্যাব স্কুলের সম্পত্তি ?

1. চম্বল
2. বাশোলি
3. কাংরা
4. বৃন্দী

Options :

485584144557. 1  
485584144558. 2  
485584144559. 3  
485584144560. 4

Question Number : 390 Question Id : 48558436140 Question Type : MCQ Option Shuffling : No Is Question Mandatory : No Calculator : None  
Response Time : N.A Think Time : N.A Minimum Instruction Time : 0

Correct Marks : 5 Wrong Marks : 1

Question Key Details :

Key	Value
Comprehension	MCQ1

"নন্দ, যশোদা અને દ્રિષ્ટા" પેઇન્ટિંગ, લઘુચિત્ર પેઇન્ટિંગની પહાડી શાળાની કઈ પેટા શાળાનું છે ?

1. ચાંબા
2. બસોહલી
3. કાંચરા
4. બુદી

Options :

485584144557. 1  
485584144558. 2  
485584144559. 3  
485584144560. 4

Question Number : 390 Question Id : 48558436140 Question Type : MCQ Option Shuffling : No Is Question Mandatory : No Calculator : None  
Response Time : N.A Think Time : N.A Minimum Instruction Time : 0

Correct Marks : 5 Wrong Marks : 1

Question Key Details :

Key	Value
Comprehension	MCQ1



"ನಂದ ಯಶೋದ ಮತ್ತು ಕೃಷ್ಣ" ಚಿತ್ರಕಲೆಯ ಯಾವ ಪಾತ್ರಾಂಶ ಅಲೆಯ ಚಿಕ್ಕನೆ-ಕರುಚಿತ್ರಕಲೆಯ ಉಪಾಸನೆಗೆ ಸೇರುತ್ತದೆ?

1. ಚಂದ್ರ
2. ಬಸೋಡೆ
3. ಕಾಂಗ್ರೆ
4. ಬುಂಡಿ

Options :

485584144557. 1
485584144558. 2
485584144559. 3
485584144560. 4

Question Number : 390 Question Id : 48558436140 Question Type : MCQ Option Shuffling : No Is Question Mandatory : No Calculator : None Response Time : N.A Think Time : N.A Minimum Instruction Time : 0

Correct Marks : 5 Wrong Marks : 1

Question Key Details :

Key	Value
Comprehension	MCQ1

"ನಂದಯೋದ ಮತ್ತು ಕೃಷ್ಣ" ಎಂಬ ಚಿತ್ರಕಲೆಯಲ್ಲಿ ಯಾವ ಪಾತ್ರಾಂಶ ಅಲೆಯ ಚಿಕ್ಕನೆ-ಕರುಚಿತ್ರಕಲೆಯ ಉಪಾಸನೆಗೆ ಸೇರುತ್ತದೆ?

1. ಚಂದ್ರ
2. ಬಸೋಡೆ
3. ಕಾಂಗ್ರೆ
4. ಬುಂಡಿ

Options :

485584144557. 1
485584144558. 2
485584144559. 3
485584144560. 4

Question Number : 390 Question Id : 48558436140 Question Type : MCQ Option Shuffling : No Is Question Mandatory : No Calculator : None Response Time : N.A Think Time : N.A Minimum Instruction Time : 0

Correct Marks : 5 Wrong Marks : 1

Question Key Details :

Key	Value
Comprehension	MCQ1

"ನಂದ, ಯಶೋದಾ ಆಠಿ ಕೃಷ್ಣ ಹೆ ಚಿತ್ರ" ಪಠಾಡಿ ಶಾಲೆಲಿಲ ಲಘು ಚಿತ್ರಕಲೆಲಿಲ ಕೂಠಲಾ ಊ-ಶಾಲೆಲಿಲ ಆಹೆ?

1. ಚಂದ್ರ
2. ಬಸೋಡೆ
3. ಕಾಂಗ್ರೆ
4. ಬುಂಡಿ

Options :

485584144557. 1
485584144558. 2

485584144559. 3  
485584144560. 4

Question Number : 390 Question Id : 48558436140 Question Type : MCQ Option Shuffling : No Is Question Mandatory : No Calculator : None  
Response Time : N.A Think Time : N.A Minimum Instruction Time : 0

Correct Marks : 5 Wrong Marks : 1

Question Key Details :

Key	Value
Comprehension	MCQ1

"ਜਦ ਏਕਸ਼ਾਰਾ 'ਮ' ਰੂਥ" ਦੇਕਿਛਾਰੇ ਜਿਹੀ-ਦੇਰ ਚਿਤੁਰੇ ਚਾਕਰੇ ਚਿਠਾਕਰਕ ਛੇਕੌ ਕਥ ਚਿਠਾਕਰਕ ਅਰੇ ?

1. ਚਰ੍ਹਾ
2. ਕਠਬਾਠਕੀ
3. ਚਾਕਰਕ
4. ਰੂਠਾ

Options :

485584144557. 1  
485584144558. 2  
485584144559. 3  
485584144560. 4

Question Number : 390 Question Id : 48558436140 Question Type : MCQ Option Shuffling : No Is Question Mandatory : No Calculator : None  
Response Time : N.A Think Time : N.A Minimum Instruction Time : 0

Correct Marks : 5 Wrong Marks : 1

Question Key Details :

Key	Value
Comprehension	MCQ1

ਪਹਾੜੀ ਲਘੁ ਚਿੱਤਰ ਸਕੂਲਾਂ ਦੇ ਕਿਸ ਸਥ ਸਕੂਲ ਨਾਲ ਚਿੱਤਰ " ਨੈਦ ਯਥੇਦਾ ਅਤੇ ਕਿਸਨ " ਸੰਬੰਧਿਤ ਹੈ?

1. ਚੰਬਾ
2. ਬਠੇਲੀ
3. ਕਾਂਗੜਾ
4. ਖੁੰਦੀ

Options :

485584144557. 1  
485584144558. 2  
485584144559. 3  
485584144560. 4

Question Number : 390 Question Id : 48558436140 Question Type : MCQ Option Shuffling : No Is Question Mandatory : No Calculator : None  
Response Time : N.A Think Time : N.A Minimum Instruction Time : 0

Correct Marks : 5 Wrong Marks : 1

Question Key Details :

Key	Value
Comprehension	MCQ1

"நந்த யசோதா மற்றும் கிருஷ்ணா" எனும் ஓவியம் நுண்கலை ஓவியங்களுக்கான பாஹி பள்ளியில் எந்த துணைப்பள்ளியைச் சார்ந்தது?

1. சம்பா
2. பசோலி
3. காணங்கிரா
4. புந்தி

**Options :**

485584144557. 1  
485584144558. 2  
485584144559. 3  
485584144560. 4

**Question Number : 390 Question Id : 48558436140 Question Type : MCQ Option Shuffling : No Is Question Mandatory : No Calculator : None Response Time : N.A Think Time : N.A Minimum Instruction Time : 0**

**Correct Marks : 5 Wrong Marks : 1**

**Question Key Details :**

Key	Value
Comprehension	MCQ1

పహరి పాఠశాలలోని సూక్ష్మ వర్ణ చిత్రాలకు సంబంధించిన ఏ ఉప పాఠశాలకు "నంద, యశోద మరియు కృష్ణ" అనే చిత్రలేఖనం చెందుతుంది?

1. చంబ
2. బశోలి
3. కాంరా
4. బుండి

**Options :**

485584144557. 1  
485584144558. 2  
485584144559. 3  
485584144560. 4

**Question Number : 390 Question Id : 48558436140 Question Type : MCQ Option Shuffling : No Is Question Mandatory : No Calculator : None Response Time : N.A Think Time : N.A Minimum Instruction Time : 0**

**Correct Marks : 5 Wrong Marks : 1**

**Question Key Details :**

Key	Value
Comprehension	MCQ1

نند یشودھا اور کرشن (Nand Yashoda and Krishna) کی بینڈنگ کس پمٹری جھوٹی شبیہ بینڈنگ کے ذیلی اسکول سے تعلق رکھتی ہیں

1. چمبا
2. سولنی
3. کانگڑا
4. بندی

**Options :**

485584144557. 1  
485584144558. 2

485584144559. 3

485584144560. 4

**Question Number : 391 Question Id : 48558436141 Question Type : MCQ Option Shuffling : No Is Question Mandatory : No Calculator : None Response Time : N.A Think Time : N.A Minimum Instruction Time : 0**

**Correct Marks : 5 Wrong Marks : 1**

**Question Key Details :**

Key	Value
Comprehension	MCQ1

The Government of India issued a postal stamp on a miniature Painting. Identify the painting of Rajasthani school?

1. Maru Ragini
2. Chaugan Players
3. Krishna on Swing
4. Bani Thani

**Options :**

485584144561. 1

485584144562. 2

485584144563. 3

485584144564. 4

**Question Number : 391 Question Id : 48558436141 Question Type : MCQ Option Shuffling : No Is Question Mandatory : No Calculator : None Response Time : N.A Think Time : N.A Minimum Instruction Time : 0**

**Correct Marks : 5 Wrong Marks : 1**

**Question Key Details :**

Key	Value
Comprehension	MCQ1

भारत सरकार ने एक लघु चित्रकला पर एक डाक टिकट जारी किया है। राजस्थानी शैली के चित्र को पहचानिए-

1. मारू रागिनी
2. चौगान खिलाड़ी
3. झूले पर कृष्ण
4. बनी-ठनी

**Options :**

485584144561. 1

485584144562. 2

485584144563. 3

485584144564. 4

**Question Number : 391 Question Id : 48558436141 Question Type : MCQ Option Shuffling : No Is Question Mandatory : No Calculator : None Response Time : N.A Think Time : N.A Minimum Instruction Time : 0**

**Correct Marks : 5 Wrong Marks : 1**

**Question Key Details :**

Key	Value
Comprehension	MCQ1

ভাৰত চৰকাৰে মিন এচিউৰ চিত্ৰশিল্পৰ এটা ডাক-টিকট উলিয়াইছিল। ৰাজস্থানী শৈলীৰ চিত্ৰশিল্প কোনটো ?

1. মাৰো বাগিনী
2. চৌগান গ্লেয়াৰচ
3. কৃষ্ণ অন চুইং
4. বানী ধানী

**Options :**

485584144561. 1  
485584144562. 2  
485584144563. 3  
485584144564. 4

**Question Number : 391 Question Id : 48558436141 Question Type : MCQ Option Shuffling : No Is Question Mandatory : No Calculator : None Response Time : N.A Think Time : N.A Minimum Instruction Time : 0**

**Correct Marks : 5 Wrong Marks : 1**

**Question Key Details :**

Key	Value
Comprehension	MCQ1

ভাৰত সরকার একটি মিনিমেচার পেন্টিং এর আদলে একটি পোস্টাল স্টাম্প প্রকাশিত করে। কোন রাজস্থানী স্কুলের পেন্টিং সেটা উল্লেখ করে ?

1. মাৰু ৰাগিনী
2. চৌগান খেলোয়াড়
3. দোলনাগ বসা কৃষ্ণ
4. বানী ধানী

**Options :**

485584144561. 1  
485584144562. 2  
485584144563. 3  
485584144564. 4

**Question Number : 391 Question Id : 48558436141 Question Type : MCQ Option Shuffling : No Is Question Mandatory : No Calculator : None Response Time : N.A Think Time : N.A Minimum Instruction Time : 0**

**Correct Marks : 5 Wrong Marks : 1**

**Question Key Details :**

Key	Value
Comprehension	MCQ1

भारत सरकारे बच्चु पेंटिङ्ग उपर पोस्टल टिकिट अहार पाडी छे. राजस्थानी स्कूलनु ते पेंटिङ्ग ओलखी.

1. माठ रागिनी
2. यौगान रमतवीरी
3. कृषा उपर कृष्ण
4. अनी धनी

**Options :**

485584144561. 1  
485584144562. 2  
485584144563. 3

Question Number : 391 Question Id : 48558436141 Question Type : MCQ Option Shuffling : No Is Question Mandatory : No Calculator : None  
Response Time : N.A Think Time : N.A Minimum Instruction Time : 0  
Correct Marks : 5 Wrong Marks : 1

Question Key Details :

Key	Value
Comprehension	MCQ1

ಭಾರತ ಸರ್ಕಾರವು ಒಂದು ಬೆಕಬೆಕಿರು ಬೆತ್ರಕಲೆಯ ಮೇಲೆ ಅಂಚೆ ಬೇಟೆಯನ್ನು ಬಿಡುಗಡೆಗೊಳಿಸಿತು.  
ರಾಜಸ್ಥಾನ ಶಾಲೆಯ ಬೆತ್ರಕಲೆಯನ್ನು ಗುರುತಿಸಿ.

1. ಮಾರು ರಾಗಿಬೆ
2. ಚೌಕಾಬಾರದ ಅಟಗಾರರು
3. ಉಯ್ಯಾಲೆ ಮೇಲಿರುವ ಕೃಷ್ಣ
4. ಬನಿ ತಾನಿ

Options :

485584144561. 1  
485584144562. 2  
485584144563. 3  
485584144564. 4

Question Number : 391 Question Id : 48558436141 Question Type : MCQ Option Shuffling : No Is Question Mandatory : No Calculator : None  
Response Time : N.A Think Time : N.A Minimum Instruction Time : 0

Correct Marks : 5 Wrong Marks : 1

Question Key Details :

Key	Value
Comprehension	MCQ1

ರಾಜಸ್ಥಾನದ ಸುಮಾರಾಯಣಿಯಲ್ಲಿ ಏಕೆ ಡಿನ್ನಿಯೇಶ್ವರಿ ಪೆಯಿಂಗ್‌ಗಳಿಗೆ ಪೊಸಪುಸ್ತಕ  
ಸ್ಥಾಪನೆ ಇನ್ನು ಗಲಗಲಿಡೆ ಇರಕುನಿಡುತ್ತಿಡೆ?

1. ಡಿನ್ನಿ ರಾಗಿನಿ
2. ಪಾಲಗಾಣಿ ಪುಯೇಶ್ವರಿ
3. ಕ್ಷುಣ್ಣಿ ಉಣತಾಲಿಡೆ
4. ಖಾನಿ ತಾನಿ

Options :

485584144561. 1  
485584144562. 2  
485584144563. 3  
485584144564. 4

Question Number : 391 Question Id : 48558436141 Question Type : MCQ Option Shuffling : No Is Question Mandatory : No Calculator : None  
Response Time : N.A Think Time : N.A Minimum Instruction Time : 0

Correct Marks : 5 Wrong Marks : 1

Question Key Details :

Key	Value
Comprehension	MCQ1

भारत सरकारने लघुचित्र टपाल तिकीटावर छापले? त्यापरिल खालील पैकी कोणते राजस्थानी शाळेतील चित्र होते ते ओळखा?

1. मारु रागिणी
2. चौगान खेळाडू
3. शोपाव्यापरिल कृष्ण
4. बानी-थानी

**Options :**

485584144561. 1  
485584144562. 2  
485584144563. 3  
485584144564. 4

**Question Number : 391 Question Id : 48558436141 Question Type : MCQ Option Shuffling : No Is Question Mandatory : No Calculator : None Response Time : N.A Think Time : N.A Minimum Instruction Time : 0**

**Correct Marks : 5 Wrong Marks : 1**

**Question Key Details :**

Key	Value
Comprehension	MCQ1

ଭାରତ ସରକାର ଏକ ମିଳି-ମିଳଇ ଚିତ୍ର ଉପରେ ଏକ ଟାଙ୍କ ଥାନ ଚାରି କରିଥିଲେ। ଭାରତୀୟ ବିଦ୍ୟାଳୟର କେହି ଚିତ୍ରଟିକୁ ଚିତ୍ର କର ?

1. ମାରୁ ରାଗିଣି
2. ଚଉଗାନ ଖେଳାଡ଼ି
3. ଶୋପାବିରେ କୃଷ୍ଣ
4. ବାନି ଥାନି

**Options :**

485584144561. 1  
485584144562. 2  
485584144563. 3  
485584144564. 4

**Question Number : 391 Question Id : 48558436141 Question Type : MCQ Option Shuffling : No Is Question Mandatory : No Calculator : None Response Time : N.A Think Time : N.A Minimum Instruction Time : 0**

**Correct Marks : 5 Wrong Marks : 1**

**Question Key Details :**

Key	Value
Comprehension	MCQ1

ਭਾਰਤ ਸਰਕਾਰ ਨੇ ਲਘੂ ਚਿੱਤਰਾਂ ਲਈ ਪੋਸਟਲ ਸਟੈਂਪ ਜਾਰੀ ਕੀਤੇ, ਹੇਠਾਂ ਦਿੱਤੇ ਟਿਕਟਾਂ ਵਿੱਚੋਂ ਰਾਜਸਥਾਨੀ ਸਕੂਲ ਦੇ ਚਿੱਤਰ ਪਛਾਣੋ?

1. ਮਾਰੂ ਰਾਗਿਣੀ
2. ਚੌਗਾਨ ਖਿਡਾਰੀ
3. ਝੁਲੇ ਤੇ ਕ੍ਰਿਸ਼ਨ
4. ਬਾਨੀ ਠਾਨੀ

**Options :**

485584144561. 1  
485584144562. 2

485584144563. 3

485584144564. 4

Question Number : 391 Question Id : 48558436141 Question Type : MCQ Option Shuffling : No Is Question Mandatory : No Calculator : None  
Response Time : N.A Think Time : N.A Minimum Instruction Time : 0

Correct Marks : 5 Wrong Marks : 1

Question Key Details :

Key	Value
Comprehension	MCQ1

இந்திய அரசு, ஒரு நுண்கலை ஒவியம் மீதான தொரு தபால் முத்திரையை வெளியிட்டது. இராஜஸ்தானிய பள்ளியின் ஒவியத்தைக் கண்டறிக:

1. மறு இராசினி
2. செளகன் ப்ளேயார்ஸ்
3. கிருஷ்ணா ஆன் ஸ்விங்க்
4. பானி-தானி

Options :

485584144561. 1

485584144562. 2

485584144563. 3

485584144564. 4

Question Number : 391 Question Id : 48558436141 Question Type : MCQ Option Shuffling : No Is Question Mandatory : No Calculator : None  
Response Time : N.A Think Time : N.A Minimum Instruction Time : 0

Correct Marks : 5 Wrong Marks : 1

Question Key Details :

Key	Value
Comprehension	MCQ1

భారత ప్రభుత్వం సూక్ష్మ వర్ణ చిత్రాలపై ఒక పోస్టల్ స్టాంప్ ను జారీ చేసింది. అందులోని రాజస్థానీ పాఠశాల పెయింటింగ్ ని గుర్తించండి.

1. మరు రాణి
2. చౌగన్ ప్లేయర్స్
3. శాయల పై కృష్ణుడు
4. బని తని

Options :

485584144561. 1

485584144562. 2

485584144563. 3

485584144564. 4

Question Number : 391 Question Id : 48558436141 Question Type : MCQ Option Shuffling : No Is Question Mandatory : No Calculator : None  
Response Time : N.A Think Time : N.A Minimum Instruction Time : 0

Correct Marks : 5 Wrong Marks : 1

Question Key Details :

Key	Value
Comprehension	MCQ1



حکومت ہند نے ایک چھوٹی سیبہ پیشنگ پر ٹاک شکٹ جاری کیا ہے۔ اس راجستھانی اسکول کی پیشنگ کی مثالیں کریں؟

1. پرو رنگینی
2. چوگان کپڑی
3. کرشنا حیولے پر
4. ہلی تیلی

**Options :**

485584144561. 1
485584144562. 2
485584144563. 3
485584144564. 4

**Question Number : 392 Question Id : 48558436142 Question Type : MCQ Option Shuffling : No Is Question Mandatory : No Calculator : None Response Time : N.A Think Time : N.A Minimum Instruction Time : 0 Correct Marks : 5 Wrong Marks : 1**

**Question Key Details :**

Key	Value
Comprehension	MCQ1

From which Purana "Krishna lifts Mount Govardhan." is attributed to Miskin (1585-90).

1. Harivansam Purana
2. Harivamsa Purana
3. Hari Purana
4. Harivan Purana

**Options :**

485584144565. 1
485584144566. 2
485584144567. 3
485584144568. 4

**Question Number : 392 Question Id : 48558436142 Question Type : MCQ Option Shuffling : No Is Question Mandatory : No Calculator : None Response Time : N.A Think Time : N.A Minimum Instruction Time : 0 Correct Marks : 5 Wrong Marks : 1**

**Question Key Details :**

Key	Value
Comprehension	MCQ1

"कृष्ण गोवर्धन पर्वत उठाते हुए" चित्र को मिस्किन (1585-90) ने किस पुराण से उल्लेख किया है?

1. हरिवंशम पुराण
2. हरिवंश पुराण
3. हरि पुराण
4. हरिवन पुराण

**Options :**

485584144565. 1
485584144566. 2
485584144567. 3
485584144568. 4

Question Number : 392 Question Id : 48558436142 Question Type : MCQ Option Shuffling : No Is Question Mandatory : No Calculator : None  
Response Time : N.A Think Time : N.A Minimum Instruction Time : 0

Correct Marks : 5 Wrong Marks : 1

Question Key Details :

Key	Value
Comprehension	MCQ1

কোনখন পুৰাণত 'কৃষ্ণই গোবৰধন পৰ্বত দাঙি ধৰা' মিচিকনৰ কথা লিখা আছে ?

1. হৰিবংশম পুৰাণ
2. হৰিবংশ পুৰাণ
3. হৰি পুৰাণ
4. হৰিভন পুৰাণ

Options :

485584144565. 1  
485584144566. 2  
485584144567. 3  
485584144568. 4

Question Number : 392 Question Id : 48558436142 Question Type : MCQ Option Shuffling : No Is Question Mandatory : No Calculator : None  
Response Time : N.A Think Time : N.A Minimum Instruction Time : 0

Correct Marks : 5 Wrong Marks : 1

Question Key Details :

Key	Value
Comprehension	MCQ1

মিসকিন (১৫৮৫-৯০) পুৰাণেৰ কোন 'কৃষ্ণ লিফটস মাউন্ট গোবৰধন' ছবিত্তে উল্লেখ পায়

1. হৰিভনসম পুৰাণ
2. হৰিভমসা পুৰাণ
3. হৰি পুৰাণ
4. হৰিভান পুৰাণ

Options :

485584144565. 1  
485584144566. 2  
485584144567. 3  
485584144568. 4

Question Number : 392 Question Id : 48558436142 Question Type : MCQ Option Shuffling : No Is Question Mandatory : No Calculator : None  
Response Time : N.A Think Time : N.A Minimum Instruction Time : 0

Correct Marks : 5 Wrong Marks : 1

Question Key Details :

Key	Value
Comprehension	MCQ1

ശ്യാ പुरാഘമാംഗീനും ചിത്ര "കൃഷ്ണാ ഗോവർധന പർവത ഉൾക്കൊള്ളി" മിസ്കീനനെ (1585-90) മറയ്ക്കുന്നു

1. ഹരിവംശം പुरാഘ
2. ഹരിവംശം പൂർവ്വ
3. ഹരി പൂർവ്വ
4. ഹരിവംശം പൂർവ്വ

Options :

485584144565. 1
485584144566. 2
485584144567. 3
485584144568. 4

Question Number : 392 Question Id : 48558436142 Question Type : MCQ Option Shuffling : No Is Question Mandatory : No Calculator : None Response Time : N.A Think Time : N.A Minimum Instruction Time : 0

Correct Marks : 5 Wrong Marks : 1

Question Key Details :

Key	Value
Comprehension	MCQ1

മിസ്കീനൻ സംബന്ധിച്ച (1585-90) "ഗോവർധന പർവതവർഷം" യാതൊരു പൂർവ്വവും?

1. ഹരിവംശം പൂർവ്വ
2. ഹരിവംശം പൂർവ്വ
3. ഹരിപൂർവ്വ
4. ഹരിവംശം പൂർവ്വ

Options :

485584144565. 1
485584144566. 2
485584144567. 3
485584144568. 4

Question Number : 392 Question Id : 48558436142 Question Type : MCQ Option Shuffling : No Is Question Mandatory : No Calculator : None Response Time : N.A Think Time : N.A Minimum Instruction Time : 0

Correct Marks : 5 Wrong Marks : 1

Question Key Details :

Key	Value
Comprehension	MCQ1

മിസ്കീനൻ "ഗോവർധന പർവതം" ഉയർത്തുന്ന കൃഷ്ണൻ്റെ ഏത് പൂർവ്വത്തിൽ നിന്നുള്ളതാണ് ?

1. ഹരിവംശം പൂർവ്വ
2. ഹരിവംശം പൂർവ്വ
3. ഹരി പൂർവ്വ
4. ഹരിവംശം പൂർവ്വ

Options :

485584144565. 1
485584144566. 2
485584144567. 3

485584144568. 4

Question Number : 392 Question Id : 48558436142 Question Type : MCQ Option Shuffling : No Is Question Mandatory : No Calculator : None Response Time : N.A Think Time : N.A Minimum Instruction Time : 0

Correct Marks : 5 Wrong Marks : 1

Question Key Details :

Key	Value
Comprehension	MCQ1

'कृष्णाने गोवर्धन पर्वत उचलला' याचे गुणविशेष मिस्किनने (1585-90) मध्ये कोणत्या पुराणातून घेतला?

1. हरिवंश पुराण
2. हरिवंसा पुराण
3. हरि पुराण
4. हरिवन पुराण

Options :

485584144565. 1

485584144566. 2

485584144567. 3

485584144568. 4

Question Number : 392 Question Id : 48558436142 Question Type : MCQ Option Shuffling : No Is Question Mandatory : No Calculator : None Response Time : N.A Think Time : N.A Minimum Instruction Time : 0

Correct Marks : 5 Wrong Marks : 1

Question Key Details :

Key	Value
Comprehension	MCQ1

କେଉଁ ପୁରାଣରୁ ନିସ୍ତରିତ (1585-90) କୁହାଯାଇଥିले "दृष्टं गोवर्धनं पर्वतं उचलितं कृष्ण" आनीत ?

1. हरिवंश पुराण
2. हरिवंश पुराण
3. हरि पुराण
4. हरिवन पुराण

Options :

485584144565. 1

485584144566. 2

485584144567. 3

485584144568. 4

Question Number : 392 Question Id : 48558436142 Question Type : MCQ Option Shuffling : No Is Question Mandatory : No Calculator : None Response Time : N.A Think Time : N.A Minimum Instruction Time : 0

Correct Marks : 5 Wrong Marks : 1

Question Key Details :

Key	Value
Comprehension	MCQ1



485584144568.4

Question Number : 392 Question Id : 48558436142 Question Type : MCQ Option Shuffling : No Is Question Mandatory : No Calculator : None  
Response Time : N.A Think Time : N.A Minimum Instruction Time : 0

Correct Marks : 5 Wrong Marks : 1

Question Key Details :

Key	Value
Comprehension	MCQ1

کس پراں (Purana) سے (کرتن گواندن بیلا تہائے بیل) کو مسکن (Miskin) (1585-90) سے منسوب ہے ؟

1. بری و نس پراں
2. بری و سا پراں
3. بری پراں
4. بری و ن پراں

Options :

485584144565. 1  
485584144566. 2  
485584144567. 3  
485584144568. 4

Question Number : 393 Question Id : 48558436143 Question Type : MCQ Option Shuffling : No Is Question Mandatory : No Calculator : None  
Response Time : N.A Think Time : N.A Minimum Instruction Time : 0

Correct Marks : 5 Wrong Marks : 1

Question Key Details :

Key	Value
Comprehension	MCQ1

Ragini Pathamsika of Raga Himadola belongs to which miniature painting

1. Mughal miniature painting
2. Rajasthani miniature painting
3. Pahari miniature painting
4. Deccani miniature painting

Options :

485584144569. 1  
485584144570. 2  
485584144571. 3  
485584144572. 4

Question Number : 393 Question Id : 48558436143 Question Type : MCQ Option Shuffling : No Is Question Mandatory : No Calculator : None  
Response Time : N.A Think Time : N.A Minimum Instruction Time : 0

Correct Marks : 5 Wrong Marks : 1

Question Key Details :

Key	Value
Comprehension	MCQ1

राग हिंडोला की रागिनी पधमसिका किस लघु चित्रशैली से सम्बंधित है?

1. मुगल लघु चित्रशैली
2. राजस्थानी लघु चित्रशैली
3. पहाड़ी लघु चित्रशैली
4. दक्कनी लघु चित्रशैली

**Options :**

485584144569. 1  
485584144570. 2  
485584144571. 3  
485584144572. 4

**Question Number : 393 Question Id : 48558436143 Question Type : MCQ Option Shuffling : No Is Question Mandatory : No Calculator : None Response Time : N.A Think Time : N.A Minimum Instruction Time : 0**

**Correct Marks : 5 Wrong Marks : 1**

**Question Key Details :**

Key	Value
Comprehension	MCQ1

রাগা হিমাংলাৰ ৰাগিণী পধমসিকা কোনখন মিনিএচিউৰ চিত্ৰশিল্পৰ অন্তৰ্গত?

1. মোগল মিনিএচিউৰ শিল্প
2. ৰাজস্থানী মিনিএচিউৰ শিল্প
3. পাহাৰী মিনিএচিউৰ শিল্প
4. ডাক্কানী মিনিএচিউৰ শিল্প

**Options :**

485584144569. 1  
485584144570. 2  
485584144571. 3  
485584144572. 4

**Question Number : 393 Question Id : 48558436143 Question Type : MCQ Option Shuffling : No Is Question Mandatory : No Calculator : None Response Time : N.A Think Time : N.A Minimum Instruction Time : 0**

**Correct Marks : 5 Wrong Marks : 1**

**Question Key Details :**

Key	Value
Comprehension	MCQ1

রাগা হিমাংলাৰ ৰাগিণী পধমসিকা কোন মিনিয়ৈচাৰ পেন্টিং-এৰ ?

1. মুঘল মিনিয়ৈচাৰ পেন্টিং
2. ৰাজস্থানী মিনিয়ৈচাৰ পেন্টিং
3. পাহাড়ী মিনিয়ৈচাৰ পেন্টিং
4. ডেকানী মিনিয়ৈচাৰ পেন্টিং

**Options :**

485584144569. 1  
485584144570. 2  
485584144571. 3  
485584144572. 4

Question Number : 393 Question Id : 48558436143 Question Type : MCQ Option Shuffling : No Is Question Mandatory : No Calculator : None  
Response Time : N.A Think Time : N.A Minimum Instruction Time : 0

Correct Marks : 5 Wrong Marks : 1

Question Key Details :

Key	Value
Comprehension	MCQ1

રાગ હિંદોવાના રાગીની પદ્યમશીખા એ ક્યાં વધુચિત્ર પેઇન્ટિંગથી સંબંધિત છે.

1. મુઘલ વધુચિત્ર પેઇન્ટિંગ
2. રાજસ્થાની વધુચિત્ર પેઇન્ટિંગ
3. પહાડી વધુચિત્ર પેઇન્ટિંગ
4. ડેક્કાની વધુચિત્ર પેઇન્ટિંગ

Options :

485584144569. 1

485584144570. 2

485584144571. 3

485584144572. 4

Question Number : 393 Question Id : 48558436143 Question Type : MCQ Option Shuffling : No Is Question Mandatory : No Calculator : None  
Response Time : N.A Think Time : N.A Minimum Instruction Time : 0

Correct Marks : 5 Wrong Marks : 1

Question Key Details :

Key	Value
Comprehension	MCQ1

રાગ હિંદોવાના રાગીની પદ્યમશીખા એ ક્યાં વધુચિત્ર પેઇન્ટિંગથી સંબંધિત છે.

1. મુઘલ બીકની/કિરુબીત્રકલ
2. રાજસ્થાની બીકની/કિરુબીત્રકલ
3. પહાડી બીકની/કિરુબીત્રકલ
4. ડેક્કાના બીકની/કિરુબીત્રકલ

Options :

485584144569. 1

485584144570. 2

485584144571. 3

485584144572. 4

Question Number : 393 Question Id : 48558436143 Question Type : MCQ Option Shuffling : No Is Question Mandatory : No Calculator : None  
Response Time : N.A Think Time : N.A Minimum Instruction Time : 0

Correct Marks : 5 Wrong Marks : 1

Question Key Details :

Key	Value
Comprehension	MCQ1



ഹിമദ്രോള രാഗത്തിലെ രാഗിണി പരാമ്പര്യക ഘട്ടത്ത് മിന്നിയെച്ചുർ പെയിന്റീങ്ങിൽ ഉൾപ്പെടുന്നു?

1. മൃഗശർ മിന്നിയെച്ചുർ പെയിന്റീങ്ങിൽ
2. രാജസ്ഥാനി മിന്നിയെച്ചുർ പെയിന്റീങ്ങിൽ
3. പഹാരി മിന്നിയെച്ചുർ പെയിന്റീങ്ങിൽ
4. ഡക്കാനി മിന്നിയെച്ചുർ പെയിന്റീങ്ങിൽ

Options :

- 485584144569. 1
- 485584144570. 2
- 485584144571. 3
- 485584144572. 4

Question Number : 393 Question Id : 48558436143 Question Type : MCQ Option Shuffling : No Is Question Mandatory : No Calculator : None Response Time : N.A Think Time : N.A Minimum Instruction Time : 0

Correct Marks : 5 Wrong Marks : 1

Question Key Details :

Key	Value
Comprehension	MCQ1

राग हिमडोला यातील रागिणी पध्मसिका कोणत्या लघु चित्रकलेतील घटक आहे?

1. मुखल लघु चित्रकला
2. राजस्थानी लघु चित्रकला
3. पहाडी लघु चित्रकला
4. दख्खन लघु चित्रकला

Options :

- 485584144569. 1
- 485584144570. 2
- 485584144571. 3
- 485584144572. 4

Question Number : 393 Question Id : 48558436143 Question Type : MCQ Option Shuffling : No Is Question Mandatory : No Calculator : None Response Time : N.A Think Time : N.A Minimum Instruction Time : 0

Correct Marks : 5 Wrong Marks : 1

Question Key Details :

Key	Value
Comprehension	MCQ1

ରାଗ ହିମାଦୋଲାର ରାଗିଣୀ ପାଞ୍ଚମସିକା କେଉଁ ନିର୍ଦ୍ଦେଶରେ ଚିତ୍ରିତ ଅଟେ ?

1. ମୁଖଲ ନିର୍ଦ୍ଦେଶରେ ଚିତ୍ର
2. ରାଜସ୍ଥାନୀ ନିର୍ଦ୍ଦେଶରେ ଚିତ୍ର
3. ପାହାଡ଼ୀ ନିର୍ଦ୍ଦେଶରେ ଚିତ୍ର
4. ଦେଖନୀ ନିର୍ଦ୍ଦେଶରେ ଚିତ୍ର

Options :

- 485584144569. 1
- 485584144570. 2

485584144571. 3

485584144572. 4

Question Number : 393 Question Id : 48558436143 Question Type : MCQ Option Shuffling : No Is Question Mandatory : No Calculator : None  
Response Time : N.A Think Time : N.A Minimum Instruction Time : 0

Correct Marks : 5 Wrong Marks : 1

Question Key Details :

Key	Value
Comprehension	MCQ1

ਰਾਗ ਹਿਮਭੋਲਾ ਦੀ ਰਾਗਿਨੀ ਪਾਠਮਸੀਕਾ ਕਿਸ ਲਘੁ ਚਿੱਤਰ ਨਾਲ ਸੰਬੰਧਿਤ ਹੈ?

1. ਮੁਗਲ ਲਘੁ ਚਿੱਤਰ
2. ਰਾਜਸਥਾਨੀ ਲਘੁ ਚਿੱਤਰ
3. ਪਹਾੜੀ ਲਘੁ ਚਿੱਤਰ
4. ਡੈਕਨ ਲਘੁ ਚਿੱਤਰ

Options :

485584144569. 1

485584144570. 2

485584144571. 3

485584144572. 4

Question Number : 393 Question Id : 48558436143 Question Type : MCQ Option Shuffling : No Is Question Mandatory : No Calculator : None  
Response Time : N.A Think Time : N.A Minimum Instruction Time : 0

Correct Marks : 5 Wrong Marks : 1

Question Key Details :

Key	Value
Comprehension	MCQ1

இராகா ஹிமதோலா எனும் இராகினி பதாளிசாவது படைப்பு எந்த நுண்கலை  
ஒவியத்தைச் சார்ந்தது:

1. முகலாய சிற்றளவு ஒவியம்
2. இராஜஸ்தானிய சிற்றளவு ஒவியம்
3. பஹரி சிற்றளவு ஒவியம்
4. டெக்கானி சிற்றளவு ஒவியம்

Options :

485584144569. 1

485584144570. 2

485584144571. 3

485584144572. 4

Question Number : 393 Question Id : 48558436143 Question Type : MCQ Option Shuffling : No Is Question Mandatory : No Calculator : None  
Response Time : N.A Think Time : N.A Minimum Instruction Time : 0

Correct Marks : 5 Wrong Marks : 1

Question Key Details :

Key	Value
Comprehension	MCQ1

రాగ హిమదేలలోని రాగణి పతంసిక వి లఘు వర్ణ చిత్రానికి చెందినది.

1. మొఘల్ లఘు వర్ణ చిత్రాలు
2. రాజస్థాన్ లఘు వర్ణ చిత్రాలు
3. పహారీ లఘు వర్ణ చిత్రాలు
4. దెక్కని లఘు వర్ణ చిత్రాలు

**Options :**

485584144569. 1
485584144570. 2
485584144571. 3
485584144572. 4

**Question Number : 393 Question Id : 48558436143 Question Type : MCQ Option Shuffling : No Is Question Mandatory : No Calculator : None Response Time : N.A Think Time : N.A Minimum Instruction Time : 0**

**Correct Marks : 5 Wrong Marks : 1**

**Question Key Details :**

Key	Value
Comprehension	MCQ1

کس چھوٹی شبیہ بینتگ (miniature painting) سے رنگنی بنیم سیکا آف راگا بیما دولا کا تعلق تھا ؟

1. مغل چھوٹی شبیہ بینتگ
2. راجستھانی چھوٹی شبیہ بینتگ
3. پہاڑی چھوٹی شبیہ بینتگ
4. لکنی چھوٹی شبیہ بینتگ

**Options :**

485584144569. 1
485584144570. 2
485584144571. 3
485584144572. 4

**Question Number : 394 Question Id : 48558436144 Question Type : MCQ Option Shuffling : No Is Question Mandatory : No Calculator : None Response Time : N.A Think Time : N.A Minimum Instruction Time : 0**

**Correct Marks : 5 Wrong Marks : 1**

**Question Key Details :**

Key	Value
Comprehension	MCQ1

The Persian Translation and illustrated version of the Hindu epic Mahabharata is known as \_\_\_\_\_.

1. Hamza Nama
2. Razm Nama
3. Akbar Nama
4. Jahangir Nama

**Options :**

485584144573. 1
485584144574. 2
485584144575. 3
485584144576. 4

Question Number : 394 Question Id : 48558436144 Question Type : MCQ Option Shuffling : No Is Question Mandatory : No Calculator : None  
Response Time : N.A Think Time : N.A Minimum Instruction Time : 0

Correct Marks : 5 Wrong Marks : 1

Question Key Details :

Key	Value
Comprehension	MCQ1

हिन्दू महाग्रंथ महाभारत का फ़ारसी अनुवाद और वर्णन रूपांतर, निम्न में से क्या जाना जाता है:

1. हमज़ा नामा
2. रज़म नामा
3. अकबर नामा
4. जहाँगीर नामा

Options :

485584144573. 1

485584144574. 2

485584144575. 3

485584144576. 4

Question Number : 394 Question Id : 48558436144 Question Type : MCQ Option Shuffling : No Is Question Mandatory : No Calculator : None  
Response Time : N.A Think Time : N.A Minimum Instruction Time : 0

Correct Marks : 5 Wrong Marks : 1

Question Key Details :

Key	Value
Comprehension	MCQ1

हिन्दू महाकाव्य महाभारत, पाठीयान अनुवाद आरु सचित्र संस्करण कौनटो हय ?

1. हामज़ा नामा
2. बाज़म नामा
3. आकबर नामा
4. ज़ाहंगीर नामा

Options :

485584144573. 1

485584144574. 2

485584144575. 3

485584144576. 4

Question Number : 394 Question Id : 48558436144 Question Type : MCQ Option Shuffling : No Is Question Mandatory : No Calculator : None  
Response Time : N.A Think Time : N.A Minimum Instruction Time : 0

Correct Marks : 5 Wrong Marks : 1

Question Key Details :

Key	Value
Comprehension	MCQ1

ਫਰਾਂਸਿ ਭਾਸ਼ਾਯ ਲੇਖਾ ਓ ਵਿਸ਼ੇਸ਼ਿਤ ਹਿੰਦੂ ਮਾਹਾਕਾਵਯ ਮਹਾਭਾਰਤੋਰ ਨਾਮ ਕਿ \_\_\_\_\_ ।

1. ਯਮਯਾ ਨਾਮਾ
2. ਰਾਯਮ ਨਾਮਾ
3. ਯਾਕਬਰ ਨਾਮਾ
4. ਯਾਹਯੀਰ ਨਾਮਾ

**Options :**

485584144573. 1
485584144574. 2
485584144575. 3
485584144576. 4

**Question Number : 394 Question Id : 48558436144 Question Type : MCQ Option Shuffling : No Is Question Mandatory : No Calculator : None Response Time : N.A Think Time : N.A Minimum Instruction Time : 0**

**Correct Marks : 5 Wrong Marks : 1**

**Question Key Details :**

Key	Value
Comprehension	MCQ1

ਕਿੰਦ੍ਰ ਮਹਾਕਾਵਯ ਮਹਾਭਾਰਤਨ੍ਰ ਫ਼ਾਰਸੀ ਭਾਸ਼ਾਓਂਰ ਅਨੇ ਸਯਿਤ੍ਰ ਸੰਸਕ੍ਰਯ \_\_\_\_\_ ਤਰੀਕਿ ਓਯਯਾਯ ਓ.

1. ਓਮਯਾਨਾਮਾ
2. ਯਮਨਾਮਾ
3. ਅਕਬਰਨਾਮਾ
4. ਯਯੀਰ ਨਾਮਾ

**Options :**

485584144573. 1
485584144574. 2
485584144575. 3
485584144576. 4

**Question Number : 394 Question Id : 48558436144 Question Type : MCQ Option Shuffling : No Is Question Mandatory : No Calculator : None Response Time : N.A Think Time : N.A Minimum Instruction Time : 0**

**Correct Marks : 5 Wrong Marks : 1**

**Question Key Details :**

Key	Value
Comprehension	MCQ1

ਕਿੰਦ੍ਰਓ ਪੁਰਾਣ ਗ੍ਰੰਠ ਮਹਾਯਯਾਰਤ ਪਰਿਯੰਯ ਅਨੁਵਾਯਿਤ ਮਯਤੁ ਯਿੰਤ੍ਰਕਲਯਕਵਾਗਿਯੁਵੁਧਨ੍ਰੁ  
ਕਿੰਦ੍ਰੰਦੁ ਯਿਯਿਯਲਾਗਿਯੰ:

1. ਯੰਮ੍ਰੁ ਨਾਮੁ
2. ਯਯੁ ਨਾਮੁ
3. ਯਕ੍ਰੁ ਨਾਮੁ
4. ਯਯਾਗਿਯੁ ਨਾਮੁ

**Options :**

485584144573. 1
485584144574. 2
485584144575. 3

485584144576. 4

Question Number : 394 Question Id : 48558436144 Question Type : MCQ Option Shuffling : No Is Question Mandatory : No Calculator : None Response Time : N.A Think Time : N.A Minimum Instruction Time : 0

Correct Marks : 5 Wrong Marks : 1

Question Key Details :

Key	Value
Comprehension	MCQ1

ഹിന്ദുപുരാണമായ മഹാഭാരതത്തിന്റെ പേർഷ്യൻ തർജ്ജിമയും, ചിത്രീകരണവും ഏൽ പേരിൽ അറിയപ്പെടുന്നു ?

1. ഹിംസ നാമ
2. രസം നാമ
3. അക്ബർ നാമ
4. ജഹാങ്കീർ നാമ

Options :

485584144573. 1

485584144574. 2

485584144575. 3

485584144576. 4

Question Number : 394 Question Id : 48558436144 Question Type : MCQ Option Shuffling : No Is Question Mandatory : No Calculator : None Response Time : N.A Think Time : N.A Minimum Instruction Time : 0

Correct Marks : 5 Wrong Marks : 1

Question Key Details :

Key	Value
Comprehension	MCQ1

हिंदू महाकाव्य महाभारताची परिचय भाषांतर आवृत्ती कोणत्या नावाने ओळखली जाते?

1. हम्झा नामा
2. रझ्म नामा
3. अकबर नामा
4. जर्हीगीर नामा

Options :

485584144573. 1

485584144574. 2

485584144575. 3

485584144576. 4

Question Number : 394 Question Id : 48558436144 Question Type : MCQ Option Shuffling : No Is Question Mandatory : No Calculator : None Response Time : N.A Think Time : N.A Minimum Instruction Time : 0

Correct Marks : 5 Wrong Marks : 1

Question Key Details :

Key	Value
Comprehension	MCQ1

ହିନ୍ଦୁ ଏପିକ୍ ନାହାରିକର ପାଠ୍ୟ ପୁସ୍ତକର ଏକ ବିଭିନ୍ନ ସଂସ୍କରଣ \_\_\_\_\_ ଭାବରେ ଚିହ୍ନଟିଆ।

1. ହନୁଜା ନାମା
2. ଚନ୍ଦ୍ର ନାମା
3. ଥାକର ନାମା
4. ଚାନ୍ଦିକା ନାମା

**Options :**

485584144573. 1
485584144574. 2
485584144575. 3
485584144576. 4

**Question Number : 394 Question Id : 48558436144 Question Type : MCQ Option Shuffling : No Is Question Mandatory : No Calculator : None Response Time : N.A Think Time : N.A Minimum Instruction Time : 0**

**Correct Marks : 5 Wrong Marks : 1**

**Question Key Details :**

Key	Value
Comprehension	MCQ1

ହିନ୍ଦୁ ମହାକାବି ମହାଭାରତ ਦੇ ପାଠ୍ୟ ପୁସ୍ତକର ଏକ ବିଭିନ୍ନ ସଂସ୍କରଣ \_\_\_\_\_ ଜାଣିଆ ନାମା ହେଉଛି।

1. ହନୁଜା ନାମା
2. ଚନ୍ଦ୍ର ନାମା
3. ଥାକର ନାମା
4. ଚାନ୍ଦିକା ନାମା

**Options :**

485584144573. 1
485584144574. 2
485584144575. 3
485584144576. 4

**Question Number : 394 Question Id : 48558436144 Question Type : MCQ Option Shuffling : No Is Question Mandatory : No Calculator : None Response Time : N.A Think Time : N.A Minimum Instruction Time : 0**

**Correct Marks : 5 Wrong Marks : 1**

**Question Key Details :**

Key	Value
Comprehension	MCQ1

ହିନ୍ଦୁ ମହାକାବି ମହାଭାରତର ପାଠ୍ୟ ପୁସ୍ତକର ଏକ ବିଭିନ୍ନ ସଂସ୍କରଣ \_\_\_\_\_ ଭାବରେ ଚିହ୍ନଟିଆ।

1. ହନୁଜା ନାମା
2. ଚନ୍ଦ୍ର ନାମା
3. ଥାକର ନାମା
4. ଚାନ୍ଦିକା ନାମା

**Options :**

485584144573. 1
485584144574. 2

485584144575. 3  
485584144576. 4

Question Number : 394 Question Id : 48558436144 Question Type : MCQ Option Shuffling : No Is Question Mandatory : No Calculator : None  
Response Time : N.A Think Time : N.A Minimum Instruction Time : 0

Correct Marks : 5 Wrong Marks : 1

Question Key Details :

Key	Value
Comprehension	MCQ1

పర్షియన్ భాషలోకి అనువదించిన హిందూ పురాణం మహాభారతం చిత్రీకరించిన సంస్కరణను ఏమని పిలుస్తారు.

1. హాష్మా నామ
2. రాజ్ నామ
3. అక్బర్ నామ
4. జహంగీర్ నామ

Options :

485584144573. 1  
485584144574. 2  
485584144575. 3  
485584144576. 4

Question Number : 394 Question Id : 48558436144 Question Type : MCQ Option Shuffling : No Is Question Mandatory : No Calculator : None  
Response Time : N.A Think Time : N.A Minimum Instruction Time : 0

Correct Marks : 5 Wrong Marks : 1

Question Key Details :

Key	Value
Comprehension	MCQ1

پندرہ زامہ مہا بھارت (Mahabharata) کا فارسی ترجمہ اور تفصیلی ورژن کون نام سے جانا جاتا ہے ؟

1. ہمزہ نامہ
2. رزم نامہ
3. اکبر نامہ
4. جہاں گور نامہ

Options :

485584144573. 1  
485584144574. 2  
485584144575. 3  
485584144576. 4

Question Number : 395 Question Id : 48558436145 Question Type : MCQ Option Shuffling : No Is Question Mandatory : No Calculator : None  
Response Time : N.A Think Time : N.A Minimum Instruction Time : 0

Correct Marks : 5 Wrong Marks : 1

Question Key Details :

Key	Value
Comprehension	MCQ1



Humayun invited of the two which Persian artists to establish a studio in his court and carry out royal paintings.

1. Mir Sayyid Ali and Abd -us -Samad
2. Mir Nazar Ali and Abd- us-Alamad
3. Mir Sayyid Khan and Abd -us- Sansar
4. Mir Sazid and Abd us Sazid

**Options :**

485584144577. 1  
485584144578. 2  
485584144579. 3  
485584144580. 4

**Question Number : 395 Question Id : 48558436145 Question Type : MCQ Option Shuffling : No Is Question Mandatory : No Calculator : None Response Time : N.A Think Time : N.A Minimum Instruction Time : 0**

**Correct Marks : 5 Wrong Marks : 1**

**Question Key Details :**

Key	Value
Comprehension	MCQ1

हुमयूँ ने किन दो फारसी कलाकारों को एक स्टूडियो स्थापित करने और शाही चित्रों को बनाने के लिए अपने दरबार में बुलाया था?

1. मीर सैय्यद अली और अब्द-उस-समद
2. मीर नजर अली और अब्द-उस-अहमद
3. मीर सैय्यद खान और अब्द-उस-संसार
4. मीर साजिद और अब्द-उस-साजिद

**Options :**

485584144577. 1  
485584144578. 2  
485584144579. 3  
485584144580. 4

**Question Number : 395 Question Id : 48558436145 Question Type : MCQ Option Shuffling : No Is Question Mandatory : No Calculator : None Response Time : N.A Think Time : N.A Minimum Instruction Time : 0**

**Correct Marks : 5 Wrong Marks : 1**

**Question Key Details :**

Key	Value
Comprehension	MCQ1

हुमयूँ ने कौन दो फारसी कलाकारों को एक स्टूडियो स्थापित करने और शाही चित्रों को बनाने के लिए अपने दरबार में बुलाया था ?

1. मीर सैय्यद अली और अब्द-आह-शामद
2. मीर नजर अली और अब्द-आह-आहमद
3. मीर सैय्यद खान और अब्द - आह-सनसार
4. मीर साजिद और अब्द आह साजिद

**Options :**

485584144577. 1  
485584144578. 2  
485584144579. 3



ಹುಮಾಯೂನನು ಕೆಳಗಿನ ಯಾವ ಇಬ್ಬರು ಕಲಾವಿದರನ್ನು ತನ್ನ ಆವರಣದಲ್ಲಿ ಸ್ವರಿಯೇ ಸ್ಥಾಪಿಸಲು ಮತ್ತು ರಾಯಲ್ ಚಿತ್ರಕಲೆಯನ್ನು ತೆಗೆದುಕೊಂಡು ಹೋಗಲು ಆಹ್ವಾನಿಸಿದನು?

1. ಮಿರ್ ಸಯ್ಯಿದ್ ಅಲಿ ಮತ್ತು ಅಬ್ದು-ಅಸ್-ಸಮದ್
2. ಮಿರ್ ನಜರ್ ಅಲಿ ಮತ್ತು ಅಬ್ದು-ಅಸ್-ಅಹ್ಮದ್
3. ಮಿರ್ ಸಯ್ಯಿದ್ ಖಾನ್ ಮತ್ತು ಅಬ್ದು-ಅಸ್-ಸನ್ಸಾರ್
4. ಮಿರ್ ಸಾಜಿದ್ ಮತ್ತು ಅಬ್ದು-ಅಸ್-ಸಾಜಿದ್

**Options :**

- 485584144577. 1
- 485584144578. 2
- 485584144579. 3
- 485584144580. 4

**Question Number : 395 Question Id : 48558436145 Question Type : MCQ Option Shuffling : No Is Question Mandatory : No Calculator : None Response Time : N.A Think Time : N.A Minimum Instruction Time : 0**

**Correct Marks : 5 Wrong Marks : 1**

**Question Key Details :**

Key	Value
Comprehension	MCQ1

ರಾಜಕೋಶ್ವಾರ್ಥದಲ್ಲಿ ರಾಜಕೀಯ ಪ್ರೀತಿಯನ್ನು ಕೊಡುವುದು ಮತ್ತು ಸ್ವರಿಯೇ ಸ್ಥಾಪಿಸುವುದು ಹಾಗೂ ಅದರ ಮೂಲಕ ರಾಜಕೀಯವನ್ನು ಕಲ್ಪಿಸುವುದು ಉದ್ದೇಶವೇನು ?

1. ಶಿರಿಯೇ ಸ್ಥಾಪಿಸುವುದು ಮತ್ತು ಅದರ ಮೂಲಕ ರಾಜಕೀಯವನ್ನು ಕಲ್ಪಿಸುವುದು
2. ಶಿರಿಯೇ ಸ್ಥಾಪಿಸುವುದು ಮತ್ತು ಅದರ ಮೂಲಕ ರಾಜಕೀಯವನ್ನು ಕಲ್ಪಿಸುವುದು
3. ಶಿರಿಯೇ ಸ್ಥಾಪಿಸುವುದು ಮತ್ತು ಅದರ ಮೂಲಕ ರಾಜಕೀಯವನ್ನು ಕಲ್ಪಿಸುವುದು
4. ಶಿರಿಯೇ ಸ್ಥಾಪಿಸುವುದು ಮತ್ತು ಅದರ ಮೂಲಕ ರಾಜಕೀಯವನ್ನು ಕಲ್ಪಿಸುವುದು

**Options :**

- 485584144577. 1
- 485584144578. 2
- 485584144579. 3
- 485584144580. 4

**Question Number : 395 Question Id : 48558436145 Question Type : MCQ Option Shuffling : No Is Question Mandatory : No Calculator : None Response Time : N.A Think Time : N.A Minimum Instruction Time : 0**

**Correct Marks : 5 Wrong Marks : 1**

**Question Key Details :**

Key	Value
Comprehension	MCQ1

ಹುಮಾಯೂನನು ಕೆಳಗಿನ ಯಾವ ಇಬ್ಬರು ಕಲಾವಿದರನ್ನು ತನ್ನ ಆವರಣದಲ್ಲಿ ಸ್ವರಿಯೇ ಸ್ಥಾಪಿಸಲು ಮತ್ತು ರಾಯಲ್ ಚಿತ್ರಕಲೆಯನ್ನು ತೆಗೆದುಕೊಂಡು ಹೋಗಲು ಆಹ್ವಾನಿಸಿದನು?

1. ಮಿರ್ ಸಯ್ಯಿದ್ ಅಲಿ ಮತ್ತು ಅಬ್ದು-ಅಸ್-ಸಮದ್
2. ಮಿರ್ ನಜರ್ ಅಲಿ ಮತ್ತು ಅಬ್ದು-ಅಸ್-ಅಹ್ಮದ್
3. ಮಿರ್ ಸಯ್ಯಿದ್ ಖಾನ್ ಮತ್ತು ಅಬ್ದು-ಅಸ್-ಸನ್ಸಾರ್
4. ಮಿರ್ ಸಾಜಿದ್ ಮತ್ತು ಅಬ್ದು-ಅಸ್-ಸಾಜಿದ್

**Options :**

- 485584144577. 1

485584144578. 2  
485584144579. 3  
485584144580. 4

Question Number : 395 Question Id : 48558436145 Question Type : MCQ Option Shuffling : No Is Question Mandatory : No Calculator : None  
Response Time : N.A Think Time : N.A Minimum Instruction Time : 0

Correct Marks : 5 Wrong Marks : 1

Question Key Details :

Key	Value
Comprehension	MCQ1

ਕੁਸ਼ਲਤਾ ਨਿਰਭਰ ਕਰਦੇ ਹਨ। ਜਦੋਂ ਕੋਈ ਵੀ ਕੰਮ ਕਰਦਾ ਹੈ ਤਾਂ ਉਸਦੀ ਕੁਸ਼ਲਤਾ ਉਸਦੀ ਸਿਖਲਾਈ ਅਤੇ ਅਨੁਭਵ 'ਤੇ ਨਿਰਭਰ ਕਰਦੀ ਹੈ।

1. ਸਿਖਲਾਈ ਅਤੇ ਅਨੁਭਵ
2. ਸਿਖਲਾਈ ਅਤੇ ਅਨੁਭਵ-ਸਮੇਤ
3. ਸਿਖਲਾਈ ਅਤੇ ਅਨੁਭਵ-ਸਮੇਤ
4. ਸਿਖਲਾਈ ਅਤੇ ਅਨੁਭਵ

Options :

485584144577. 1  
485584144578. 2  
485584144579. 3  
485584144580. 4

Question Number : 395 Question Id : 48558436145 Question Type : MCQ Option Shuffling : No Is Question Mandatory : No Calculator : None  
Response Time : N.A Think Time : N.A Minimum Instruction Time : 0

Correct Marks : 5 Wrong Marks : 1

Question Key Details :

Key	Value
Comprehension	MCQ1

ਗੁਰਮਤਿ ਨੇ ਹੇਠ ਲਿਖਿਆਂ ਵਿੱਚੋਂ ਕਿਹੜੇ ਦੋ ਵਿਆਕਤੀ ਕਲਾਕਾਰਾਂ ਨੂੰ ਬੁਲਾਈਆਂ, ਜਿਨ੍ਹਾਂ ਨੇ ਉਸਦੇ ਦਰਬਾਰ ਵਿੱਚ ਇੱਕ ਸਟੂਡੀਓ ਅਤੇ ਸਾਹੀ ਚਿੱਤਰ ਰਖ-ਰਖਾਵ ਲਈ ਸਥਾਪਨਾ ਕੀਤੀ:-

1. ਮੀਰ ਸ਼ਾਹ ਅਲੀ ਅਤੇ ਅਬਦ ਉਸ ਸਮਦ
2. ਮੀਰ ਨਜ਼ਰ ਅਲੀ ਅਤੇ ਅਬਦ ਉਸ ਅਹਿਮਦ
3. ਮੀਰ ਸ਼ਾਹ ਖਾਨ ਅਤੇ ਅਬਦ ਉਸ ਸੰਸਰ
4. ਮੀਰ ਸ਼ਾਹ ਅਤੇ ਅਬਦ ਉਸ ਸ਼ਾਹਿਦ

Options :

485584144577. 1  
485584144578. 2  
485584144579. 3  
485584144580. 4

Question Number : 395 Question Id : 48558436145 Question Type : MCQ Option Shuffling : No Is Question Mandatory : No Calculator : None  
Response Time : N.A Think Time : N.A Minimum Instruction Time : 0

Correct Marks : 5 Wrong Marks : 1

Question Key Details :

Key	Value
Comprehension	MCQ1

ஹுமாயூன், தனது அரசு அவையில் ஒரு ஸ்டூடியோவை அமைத்து, அரசகுல ஓவியங்களை நிறுவ அழைத்த. இரு கலைஞர்கள் யார்?

1. மிர் சையத் அலி மற்றும் அப்-தஸ்-ஸாமத்
2. மிர் நிஜர் அலி மற்றும் அப்-தஸ்-அஹ்மத்
3. மிர் சையத் கான் மற்றும் அப்-தஸ்-சன்சார்
4. மிர் சஸீத் மற்றும் அப்-தஸ் சஸித்

Options :

485584144577. 1  
485584144578. 2  
485584144579. 3  
485584144580. 4

Question Number : 395 Question Id : 48558436145 Question Type : MCQ Option Shuffling : No Is Question Mandatory : No Calculator : None Response Time : N.A Think Time : N.A Minimum Instruction Time : 0

Correct Marks : 5 Wrong Marks : 1

Question Key Details :

Key	Value
Comprehension	MCQ1

வெட்டி வாரில் ஹுமாயூன் வ ஐந்து சித்தாரூலனு பிலிவி தன் கோர் பயல உக ஷூடியோனு ஸ்ரீபிவி ராஜ சித்தாலனு வேயிண்டாது.

1. மீர் நயூத் அலி அன்ட் அஹ் அஸ் நமத்
2. மீர் நஜர் அலி அன்ட் அஹ் அஸ் அஹ்
3. மீர் நயூத் ஹன் அன்ட் அஹ் அஸ் ஸன்சார்
4. மீர் ஸாஜித் அன்ட் அஹ் அஸ் ஸாஜித்

Options :

485584144577. 1  
485584144578. 2  
485584144579. 3  
485584144580. 4

Question Number : 395 Question Id : 48558436145 Question Type : MCQ Option Shuffling : No Is Question Mandatory : No Calculator : None Response Time : N.A Think Time : N.A Minimum Instruction Time : 0

Correct Marks : 5 Wrong Marks : 1

Question Key Details :

Key	Value
Comprehension	MCQ1

ہمایوں نے کن دو آرٹسٹ کو اپنی عدالت میں اسٹوڈیو قائم کرانے اور شاہی پینٹنگ کو جاری رکھنے کے لئے مدعو کیا تھا اور ان دونوں فن کار کی شناخت کریں :

1. میر سید علی اور عبدالصمد
2. میر نظر علی اور عبدالاحمد
3. میر سید خان اور عبدالستار
4. میر ساجد اور عبدالساجد

Options :

485584144577. 1

485584144578. 2  
485584144579. 3  
485584144580. 4

**Question Number : 396 Question Id : 48558436146 Question Type : MCQ Option Shuffling : No Is Question Mandatory : No Calculator : None Response Time : N.A Think Time : N.A Minimum Instruction Time : 0**

**Correct Marks : 5 Wrong Marks : 1**

**Question Key Details :**

Key	Value
Comprehension	MCQ1

The Mughal style of miniature paintings used to represents how many dimensions?

1. Four Dimensions
2. Two Dimensions
3. Five Dimensions
4. Three Dimensions

**Options :**

485584144581. 1  
485584144582. 2  
485584144583. 3  
485584144584. 4

**Question Number : 396 Question Id : 48558436146 Question Type : MCQ Option Shuffling : No Is Question Mandatory : No Calculator : None Response Time : N.A Think Time : N.A Minimum Instruction Time : 0**

**Correct Marks : 5 Wrong Marks : 1**

**Question Key Details :**

Key	Value
Comprehension	MCQ1

लघु चित्रकारी की मुगल शैली कितनों आयामों (आकारों) को दर्शाती है?

1. चार आयाम
2. दो आयाम
3. पांच आयाम
4. तीन आयाम

**Options :**

485584144581. 1  
485584144582. 2  
485584144583. 3  
485584144584. 4

**Question Number : 396 Question Id : 48558436146 Question Type : MCQ Option Shuffling : No Is Question Mandatory : No Calculator : None Response Time : N.A Think Time : N.A Minimum Instruction Time : 0**

**Correct Marks : 5 Wrong Marks : 1**

**Question Key Details :**

Key	Value
Comprehension	MCQ1

মোগল সময়ছোৱাৰ মিনিএচিউৰ চিত্ৰশিল্পত কিমান মাত্ৰা আছিল ?

1. ৪ মাত্ৰা
2. ২ মাত্ৰা
3. ৫ মাত্ৰা
4. ৩ মাত্ৰা

**Options :**

485584144581. 1  
485584144582. 2  
485584144583. 3  
485584144584. 4

**Question Number : 396 Question Id : 48558436146 Question Type : MCQ Option Shuffling : No Is Question Mandatory : No Calculator : None Response Time : N.A Think Time : N.A Minimum Instruction Time : 0**

**Correct Marks : 5 Wrong Marks : 1**

**Question Key Details :**

Key	Value
Comprehension	MCQ1

মুঘল মিনিয়েচ্যাৰ পেন্টিং এৰ কতগুনো পৰিমাণ আছে ?

1. চাৰ মাত্ৰিক
2. দুই মাত্ৰিক
3. পাঁচ মাত্ৰিক
4. তিন মাত্ৰিক

**Options :**

485584144581. 1  
485584144582. 2  
485584144583. 3  
485584144584. 4

**Question Number : 396 Question Id : 48558436146 Question Type : MCQ Option Shuffling : No Is Question Mandatory : No Calculator : None Response Time : N.A Think Time : N.A Minimum Instruction Time : 0**

**Correct Marks : 5 Wrong Marks : 1**

**Question Key Details :**

Key	Value
Comprehension	MCQ1

মুঘল ষ্টাৰ্চবৰ্ণ লঘুচিত্ৰ পেইণ্টিং কেটবা প্ৰকাৰনাং পৰিমাণে দৰ্শাইছে ?

1. যাৰ পৰিমাণ
2. ষোল্ল পৰিমাণ
3. পাঁচ পৰিমাণ
4. সাত পৰিমাণ

**Options :**

485584144581. 1  
485584144582. 2  
485584144583. 3  
485584144584. 4

Question Number : 396 Question Id : 48558436146 Question Type : MCQ Option Shuffling : No Is Question Mandatory : No Calculator : None Response Time : N.A Think Time : N.A Minimum Instruction Time : 0

Correct Marks : 5 Wrong Marks : 1

Question Key Details :

Key	Value
Comprehension	MCQ1

ಮುಘಲ್ ಶೈಲಿಯ ಬೆಕವೆ/ಕಿರುಬೆತ್ರಕಲೆಗಳು ಪ್ರತಿನಿಧಿಸುವುದು ಎಷ್ಟು ಆಯಾಮಗಳನ್ನು?

1. ನಾಲ್ಕು ಆಯಾಮಗಳು
2. ಎರಡು ಆಯಾಮಗಳು
3. ಐದು ಆಯಾಮಗಳು
4. ಮೂರು ಆಯಾಮಗಳು

Options :

- 485584144581. 1
- 485584144582. 2
- 485584144583. 3
- 485584144584. 4

Question Number : 396 Question Id : 48558436146 Question Type : MCQ Option Shuffling : No Is Question Mandatory : No Calculator : None Response Time : N.A Think Time : N.A Minimum Instruction Time : 0

Correct Marks : 5 Wrong Marks : 1

Question Key Details :

Key	Value
Comprehension	MCQ1

ಬೃಹಸ್ಪತಿ ಸುಗ್ರಹದಾಯಾಂತ್ರಿಕವಿಧಾನದ ಅನುಷ್ಠಾನಕ್ಕೆ ಸಂಬಂಧಿಸಿದಂತೆ ಯಾವುದು ಸರಿಯಾದ ಉತ್ತರ?

1. ಏಕಮಾನಂ
2. ದ್ವಿಮಾನಂ
3. ಪಂಚಮಾನಂ
4. ತ್ರಿಮಾನಂ

Options :

- 485584144581. 1
- 485584144582. 2
- 485584144583. 3
- 485584144584. 4

Question Number : 396 Question Id : 48558436146 Question Type : MCQ Option Shuffling : No Is Question Mandatory : No Calculator : None Response Time : N.A Think Time : N.A Minimum Instruction Time : 0

Correct Marks : 5 Wrong Marks : 1

Question Key Details :

Key	Value
Comprehension	MCQ1



ਮੁਘਲ ਲਘੂ ਚਿੱਤਰਕਲੇਟੀਲ ਮੁਘਲ ਸ਼ੈਲੀਤ ਕਿੱਤੀ ਪਰਿਠਾਮ ਅਸਤਾਤ?

1. ਚਾਰ ਪਰਿਠਾਮ
2. ਦੋਨ ਪਰਿਠਾਮ
3. ਪਾਚ ਪਰਿਠਾਮ
4. ਤੀਨ ਪਰਿਠਾਮ

**Options :**

485584144581. 1  
485584144582. 2  
485584144583. 3  
485584144584. 4

**Question Number : 396 Question Id : 48558436146 Question Type : MCQ Option Shuffling : No Is Question Mandatory : No Calculator : None Response Time : N.A Think Time : N.A Minimum Instruction Time : 0**

**Correct Marks : 5 Wrong Marks : 1**

**Question Key Details :**

Key	Value
Comprehension	MCQ1

ਸੋਮਾਦਲ ਭਾਗਲ ਸਿਨੀਅਰਲ ਚਿੱਤਰਕਲੇਟੀਲ ਸੇਰਸਰ ਚਾਢਸੇਰਦੂਨ ਵਲੀਠੀ।

1. ਚਾਢੀ ਚਾਢਸੇਰਦੂਨ
2. ਦੂਜੀ ਚਾਢਸੇਰਦੂਨ
3. ਚਾਢ ਚਾਢਸੇਰਦੂਨ
4. ਚਿਨੀ ਚਾਢਸੇਰਦੂਨ

**Options :**

485584144581. 1  
485584144582. 2  
485584144583. 3  
485584144584. 4

**Question Number : 396 Question Id : 48558436146 Question Type : MCQ Option Shuffling : No Is Question Mandatory : No Calculator : None Response Time : N.A Think Time : N.A Minimum Instruction Time : 0**

**Correct Marks : 5 Wrong Marks : 1**

**Question Key Details :**

Key	Value
Comprehension	MCQ1

ਲਘੂ ਚਿੱਤਰਕਲੇਟੀਲ ਮੁਘਲ ਸ਼ੈਲੀਤ ਕਿੱਤੀ ਵਿਠਾਈ ਦੀ ਹੈ?

1. ਚਾਰ ਵਿਠਾਈ
2. ਦੋ ਵਿਠਾਈ
3. ਪੰਜ ਵਿਠਾਈ
4. ਤਿੰਨ ਵਿਠਾਈ

**Options :**

485584144581. 1  
485584144582. 2  
485584144583. 3

485584144584. 4

Question Number : 396 Question Id : 48558436146 Question Type : MCQ Option Shuffling : No Is Question Mandatory : No Calculator : None  
Response Time : N.A Think Time : N.A Minimum Instruction Time : 0

Correct Marks : 5 Wrong Marks : 1

Question Key Details :

Key	Value
Comprehension	MCQ1

நுண்கலை ஓவியங்களது முகலாய பாணி எத்தனை பரிமாணங்களைக் குறிக்கின்றன?

1. நான்கு பரிமாணங்கள்
2. இரண்டு பரிமாணங்கள்
3. ஐந்து பரிமாணங்கள்
4. மூன்று பரிமாணங்கள்

Options :

485584144581. 1  
485584144582. 2  
485584144583. 3  
485584144584. 4

Question Number : 396 Question Id : 48558436146 Question Type : MCQ Option Shuffling : No Is Question Mandatory : No Calculator : None  
Response Time : N.A Think Time : N.A Minimum Instruction Time : 0

Correct Marks : 5 Wrong Marks : 1

Question Key Details :

Key	Value
Comprehension	MCQ1

மொஹல் பத்தி லீனி லஹு வர்ஷ் வித்யாஸு வஸ்தி மூஹமூலஸு தெலியகேஸ்யூ

1. வசுமூஹமூ
2. தீமூஹமூ
3. வர்ஷ்மூஹமூ
4. த்ரிமூஹமூ

Options :

485584144581. 1  
485584144582. 2  
485584144583. 3  
485584144584. 4

Question Number : 396 Question Id : 48558436146 Question Type : MCQ Option Shuffling : No Is Question Mandatory : No Calculator : None  
Response Time : N.A Think Time : N.A Minimum Instruction Time : 0

Correct Marks : 5 Wrong Marks : 1

Question Key Details :

Key	Value
Comprehension	MCQ1

معلیہ طرز کی جیوٹی نیبہ پیشنگ کنلی ابعاد کی نمائندگی کرتی ہیں ؟

1. چار ابعاد
2. دو ابعاد
3. پانچ ابعاد
4. تین ابعاد

**Options :**

485584144581. 1
485584144582. 2
485584144583. 3
485584144584. 4

**Question Number : 397 Question Id : 48558436147 Question Type : MCQ Option Shuffling : No Is Question Mandatory : No Calculator : None Response Time : N.A Think Time : N.A Minimum Instruction Time : 0**

**Correct Marks : 5 Wrong Marks : 1**

**Question Key Details :**

Key	Value
Comprehension	MCQ1

The famous painting "Chand Bibi playing polo" is placed in which museum?

1. National Gallery of Modern Art, New Delhi
2. Victoria Memorial, Kolkata
3. National Museum, New Delhi
4. National Museum, Gujarat

**Options :**

485584144585. 1
485584144586. 2
485584144587. 3
485584144588. 4

**Question Number : 397 Question Id : 48558436147 Question Type : MCQ Option Shuffling : No Is Question Mandatory : No Calculator : None Response Time : N.A Think Time : N.A Minimum Instruction Time : 0**

**Correct Marks : 5 Wrong Marks : 1**

**Question Key Details :**

Key	Value
Comprehension	MCQ1

प्रसिद्ध चित्र "चाँद बीबी पोलो खेल रही है" किस संग्रहालय में रखी है?

1. राष्ट्रिय आधुनिक कला विद्या, नई दिल्ली
2. विक्टोरिया मेमोरियल, कोलकाता
3. राष्ट्रीय संग्रहालय, नई दिल्ली
4. राष्ट्रीय संग्रहालय, गुजरात

**Options :**

485584144585. 1
485584144586. 2
485584144587. 3
485584144588. 4

Question Number : 397 Question Id : 48558436147 Question Type : MCQ Option Shuffling : No Is Question Mandatory : No Calculator : None  
Response Time : N.A Think Time : N.A Minimum Instruction Time : 0

Correct Marks : 5 Wrong Marks : 1

Question Key Details :

Key	Value
Comprehension	MCQ1

" চান্দ বিবি প্রেইং পল " কোনটো সংগ্রহালয়ত আছে ?

1. নেচনেল গেলারী অফ মডার্ন আর্ট , নতুন দিল্লী
2. ভিক্টোরিয়া মেমোরিয়াল, কলকাতা
3. নেচনেল মিউজিয়াম, নতুন দিল্লী
4. নেচনেল মিউজিয়াম, গুজরাট

Options :

485584144585. 1  
485584144586. 2  
485584144587. 3  
485584144588. 4

Question Number : 397 Question Id : 48558436147 Question Type : MCQ Option Shuffling : No Is Question Mandatory : No Calculator : None  
Response Time : N.A Think Time : N.A Minimum Instruction Time : 0

Correct Marks : 5 Wrong Marks : 1

Question Key Details :

Key	Value
Comprehension	MCQ1

প্রসিদ্ধ পেন্টিং . "চাঁদ বিবি প্রেইং" পোলো কোন সংগ্রহশালায় রাখা ?

1. জাতীয় গ্যালারি অফ মডার্ন আর্ট, নিউ দিল্লী
2. ভিক্টোরিয়া মেমোরিয়াল, কলকাতা
3. জাতীয় ষাদুঘর , নিউ দিল্লী
4. জাতীয় ষাদুঘর, গুজরাট

Options :

485584144585. 1  
485584144586. 2  
485584144587. 3  
485584144588. 4

Question Number : 397 Question Id : 48558436147 Question Type : MCQ Option Shuffling : No Is Question Mandatory : No Calculator : None  
Response Time : N.A Think Time : N.A Minimum Instruction Time : 0

Correct Marks : 5 Wrong Marks : 1

Question Key Details :

Key	Value
Comprehension	MCQ1

പ്രഖ്യാത പെർഫോമൻസ് രാജ്യം ഓഫ് ഓഫീസ് നെ കഴിഞ്ഞു മുന്നിലേക്ക് നയിച്ചു.

1. നെഷണൽ ഗവൺമെന്റ് ഓഫ് നവീന ടെക്നോളജി
2. വിക്ടോറിയ മെമോറിയൽ, കോൽക്കട്ട
3. നെഷണൽ മ്യൂസിയം, നവീന ടെക്നോളജി
4. നെഷണൽ മ്യൂസിയം, ഗുജറാത്

Options :

485584144585. 1  
485584144586. 2  
485584144587. 3  
485584144588. 4

Question Number : 397 Question Id : 48558436147 Question Type : MCQ Option Shuffling : No Is Question Mandatory : No Calculator : None Response Time : N.A Think Time : N.A Minimum Instruction Time : 0

Correct Marks : 5 Wrong Marks : 1

Question Key Details :

Key	Value
Comprehension	MCQ1

പ്രസിദ്ധ ചിത്രകലയുടെ "പ്രൈം ടൈം" കലാകാരന്മാർക്ക് "ലൈവ്" യൂണിറ്റ് നൽകുന്നതിനായി  
അപേക്ഷിക്കുക?

1. സോഷൽ നെറ്റ്വർക്ക് ഓഫ് നെറ്റ്വർക്ക്, നവീന ടെക്നോളജി
2. വിക്ടോറിയ മെമോറിയൽ, കോൽക്കട്ട
3. സോഷൽ നെറ്റ്വർക്ക്, നവീന ടെക്നോളജി
4. സോഷൽ നെറ്റ്വർക്ക്, ഗുജറാത്

Options :

485584144585. 1  
485584144586. 2  
485584144587. 3  
485584144588. 4

Question Number : 397 Question Id : 48558436147 Question Type : MCQ Option Shuffling : No Is Question Mandatory : No Calculator : None Response Time : N.A Think Time : N.A Minimum Instruction Time : 0

Correct Marks : 5 Wrong Marks : 1

Question Key Details :

Key	Value
Comprehension	MCQ1

"ചാൻസ്" നെറ്റ്വർക്ക് കമ്മ്യൂണിറ്റി" എന്ന പ്രസിദ്ധ നെറ്റ്വർക്ക് ഓഫ് നെറ്റ്വർക്ക്  
അപേക്ഷിക്കുക?

1. സോഷൽ നെറ്റ്വർക്ക് ഓഫ് നെറ്റ്വർക്ക്, നവീന ടെക്നോളജി
2. വിക്ടോറിയ മെമോറിയൽ, കോൽക്കട്ട
3. സോഷൽ നെറ്റ്വർക്ക്, നവീന ടെക്നോളജി
4. സോഷൽ നെറ്റ്വർക്ക്, ഗുജറാത്

Options :

485584144585. 1  
485584144586. 2

485584144587. 3  
485584144588. 4

Question Number : 397 Question Id : 48558436147 Question Type : MCQ Option Shuffling : No Is Question Mandatory : No Calculator : None  
Response Time : N.A Think Time : N.A Minimum Instruction Time : 0

Correct Marks : 5 Wrong Marks : 1

Question Key Details :

Key	Value
Comprehension	MCQ1

पोली खेळणारी चाँद बीबी हे प्रसिद्ध चित्र कोणत्या वस्तू संग्रहालयात ठेवले आहे?

1. नवी दिल्ली येथील नॅशनल गॅलरी ऑफ मॉडर्न आर्ट
2. कोलकाता येथील व्हिक्टोरिया मेमोरियल
3. नवी दिल्ली येथील राष्ट्रीय वस्तू संग्रहालय
4. गुजराथ येथील राष्ट्रीय वस्तू संग्रहालय

Options :

485584144585. 1  
485584144586. 2  
485584144587. 3  
485584144588. 4

Question Number : 397 Question Id : 48558436147 Question Type : MCQ Option Shuffling : No Is Question Mandatory : No Calculator : None  
Response Time : N.A Think Time : N.A Minimum Instruction Time : 0

Correct Marks : 5 Wrong Marks : 1

Question Key Details :

Key	Value
Comprehension	MCQ1

"ଦର ଦିବି ସୁଭଦ୍ରା ପୋଇନା" ପ୍ରତିଷ୍ଠିତ କେଉଁ କାବ୍ୟର ରଚନାକାର ଅଛନ୍ତି?

1. ଜଗନ୍ନାଥ ରାଧାନାଥ ପଟ୍ଟନାୟକ, ନୂଆ ଦିଲ୍ଲୀ
2. ବିଶ୍ଵନାଥ ମେଘାଧର, କୋଲକାତା
3. ଜଗନ୍ନାଥ ମୁଖାର୍ଜୀ, ନୂଆ ଦିଲ୍ଲୀ
4. ଜଗନ୍ନାଥ ମୁଖାର୍ଜୀ, ଭୁବନେଶ୍ଵର

Options :

485584144585. 1  
485584144586. 2  
485584144587. 3  
485584144588. 4

Question Number : 397 Question Id : 48558436147 Question Type : MCQ Option Shuffling : No Is Question Mandatory : No Calculator : None  
Response Time : N.A Think Time : N.A Minimum Instruction Time : 0

Correct Marks : 5 Wrong Marks : 1

Question Key Details :

Key	Value
Comprehension	MCQ1



Question Number : 397 Question Id : 48558436147 Question Type : MCQ Option Shuffling : No Is Question Mandatory : No Calculator : None  
Response Time : N.A Think Time : N.A Minimum Instruction Time : 0

Correct Marks : 5 Wrong Marks : 1

Question Key Details :

Key	Value
Comprehension	MCQ1

مشہور پیشنگ "جنتہ ہی ہی بولو کیپتے بولے" کس محوزیم میں رکھی ہوئی ہے ؟

1. نیشنل گیلری آف مولرن آرٹ، نئی دہلی
2. وکٹوریہ میموریل، کولکاتا
3. نیشنل میوزیم، نئی دہلی
4. نیشنل میوزیم، گجرات

Options :

485584144585. 1  
485584144586. 2  
485584144587. 3  
485584144588. 4

Question Number : 398 Question Id : 48558436148 Question Type : MCQ Option Shuffling : No Is Question Mandatory : No Calculator : None  
Response Time : N.A Think Time : N.A Minimum Instruction Time : 0

Correct Marks : 5 Wrong Marks : 1

Question Key Details :

Key	Value
Comprehension	MCQ1

Who is the creator of the journal "Indian Society of Oriented Art"?

1. Rabindranath Tagore
2. Raja Ravi Varma
3. Nandalal Bose
4. Abanindranath Tagore

Options :

485584144589. 1  
485584144590. 2  
485584144591. 3  
485584144592. 4

Question Number : 398 Question Id : 48558436148 Question Type : MCQ Option Shuffling : No Is Question Mandatory : No Calculator : None  
Response Time : N.A Think Time : N.A Minimum Instruction Time : 0

Correct Marks : 5 Wrong Marks : 1

Question Key Details :

Key	Value
Comprehension	MCQ1



"इंडियन सोसाइटी ऑफ़ ओरिएण्टेड आर्ट" नामक पत्रिका (जर्नल) का सृजनकर्ता कौन है?

1. रवीन्द्रनाथ टैगोर
2. राजा रवि वर्मा
3. नंदलाल बोस
4. अबर्निन्द्रनाथ टैगोर

**Options :**

485584144589. 1  
485584144590. 2  
485584144591. 3  
485584144592. 4

**Question Number : 398 Question Id : 48558436148 Question Type : MCQ Option Shuffling : No Is Question Mandatory : No Calculator : None Response Time : N.A Think Time : N.A Minimum Instruction Time : 0**

**Correct Marks : 5 Wrong Marks : 1**

**Question Key Details :**

Key	Value
Comprehension	MCQ1

"इंडियन चर्चाइटी अफ़ ओरिएण्टेड आर्ट" क सृष्ट कसन ?

1. रवीन्द्रनाथ ठाकुर
2. राजा रवि वर्मा
3. नन्दलाल बसु
4. अबनीन्द्रनाथ ठाकुर

**Options :**

485584144589. 1  
485584144590. 2  
485584144591. 3  
485584144592. 4

**Question Number : 398 Question Id : 48558436148 Question Type : MCQ Option Shuffling : No Is Question Mandatory : No Calculator : None Response Time : N.A Think Time : N.A Minimum Instruction Time : 0**

**Correct Marks : 5 Wrong Marks : 1**

**Question Key Details :**

Key	Value
Comprehension	MCQ1

"इंडियन सोसाइटी अफ़ ओरिएण्टेड आर्ट" जर्नलर शिष्टी के ?

1. रवीन्द्रनाथ ठाकुर
2. राजा रवि वर्मा
3. नन्दलाल बोस
4. अबनीन्द्रनाथ ठाकुर

**Options :**

485584144589. 1  
485584144590. 2  
485584144591. 3  
485584144592. 4

Question Number : 398 Question Id : 48558436148 Question Type : MCQ Option Shuffling : No Is Question Mandatory : No Calculator : None Response Time : N.A Think Time : N.A Minimum Instruction Time : 0

Correct Marks : 5 Wrong Marks : 1

Question Key Details :

Key	Value
Comprehension	MCQ1

"Indian Society of Oriented Art" નામની જર્નલના સચાઈતા કોણ છે ?

1. રવિન્દ્રનાથ ટાગોર
2. રાજા રવિ વર્મા
3. નંદલાલ બોસ્
4. અવનિન્દ્રનાથ ટાગોર

Options :

485584144589. 1

485584144590. 2

485584144591. 3

485584144592. 4

Question Number : 398 Question Id : 48558436148 Question Type : MCQ Option Shuffling : No Is Question Mandatory : No Calculator : None Response Time : N.A Think Time : N.A Minimum Instruction Time : 0

Correct Marks : 5 Wrong Marks : 1

Question Key Details :

Key	Value
Comprehension	MCQ1

"ಇಂಡિયન્ સોસાયટી ઓફ ઓરિયન્ટલ આર્ટ" એಂಬ હેડરિંગ જર્નલ અನ್ನು અરંભીસિદવરુ યોરુ?

1. રવિન્દ્રનાથ ટાગોર
2. રાજા રવિવર્મા
3. નંદલાલ બોસ્
4. અવનિન્દ્રનાથ ટાગોર

Options :

485584144589. 1

485584144590. 2

485584144591. 3

485584144592. 4

Question Number : 398 Question Id : 48558436148 Question Type : MCQ Option Shuffling : No Is Question Mandatory : No Calculator : None Response Time : N.A Think Time : N.A Minimum Instruction Time : 0

Correct Marks : 5 Wrong Marks : 1

Question Key Details :

Key	Value
Comprehension	MCQ1

"ഇന്ത്യൻ സൊസൈറ്റി ഓഫ് ഓറിയന്റൽ ആർട്ട്" എന്ന പ്രസിദ്ധീകരണത്തിന്റെ സ്യൂപ്പർവ് ആർ ?

1. രവീന്ദ്രനാഥ ടാഗോർ
2. രാജാ രവിവർമ്മ
3. നന്ദലാൽ ബോസ്
4. അഭനീന്ദ്രനാഥ ടാഗോർ

Options :

- 485584144589. 1
- 485584144590. 2
- 485584144591. 3
- 485584144592. 4

Question Number : 398 Question Id : 48558436148 Question Type : MCQ Option Shuffling : No Is Question Mandatory : No Calculator : None Response Time : N.A Think Time : N.A Minimum Instruction Time : 0

Correct Marks : 5 Wrong Marks : 1

Question Key Details :

Key	Value
Comprehension	MCQ1

"भारतीय समाज अभिमुख कला" या मासिकाचे निमत कोण आहेत?

1. रवीन्द्रनाथ टागोर
2. राजा रवी वर्मा
3. नंदलाल बोस
4. अबनीन्द्रनाथ टागोर

Options :

- 485584144589. 1
- 485584144590. 2
- 485584144591. 3
- 485584144592. 4

Question Number : 398 Question Id : 48558436148 Question Type : MCQ Option Shuffling : No Is Question Mandatory : No Calculator : None Response Time : N.A Think Time : N.A Minimum Instruction Time : 0

Correct Marks : 5 Wrong Marks : 1

Question Key Details :

Key	Value
Comprehension	MCQ1

"ଭଞ୍ଜିଆନ ଦୋହାଭରି ଅଫ ଓରିଏଣ୍ଟେଲ ଆର୍ଟ" ବର୍ଣ୍ଣନା ପୃଷ୍ଠା କିଏ ଗଢ଼ିଛନ୍ତି ?

1. ରବୀନ୍ଦ୍ରନାଥ ଟାଗୋର
2. ରାଜା ରବି ବର୍ମା
3. ନନ୍ଦଲାଲ ବୋସ
4. ଅବନୀନ୍ଦ୍ରନାଥ ଟାଗୋର

Options :

- 485584144589. 1
- 485584144590. 2

485584144591. 3

485584144592. 4

Question Number : 398 Question Id : 48558436148 Question Type : MCQ Option Shuffling : No Is Question Mandatory : No Calculator : None  
Response Time : N.A Think Time : N.A Minimum Instruction Time : 0

Correct Marks : 5 Wrong Marks : 1

Question Key Details :

Key	Value
Comprehension	MCQ1

"ਓਰੀਐਂਟਲ ਕਲਾ ਦਾ ਭਾਰਤੀ ਸਮਾਜ" ਜਰਨਲ ਦੇ ਨਿਰਮਾਤਾ ਕੌਣ ਹੈ?

1. ਰਵਿੰਦਰਨਾਥ ਟੈਗੋਰ
2. ਰਾਜਾ ਰਵੀ ਵਰਮਾ
3. ਨੰਦਲਾਲ ਬੋਸ
4. ਅਭਿਨਿੰਦਰਨਾਥ ਟੈਗੋਰ

Options :

485584144589. 1

485584144590. 2

485584144591. 3

485584144592. 4

Question Number : 398 Question Id : 48558436148 Question Type : MCQ Option Shuffling : No Is Question Mandatory : No Calculator : None  
Response Time : N.A Think Time : N.A Minimum Instruction Time : 0

Correct Marks : 5 Wrong Marks : 1

Question Key Details :

Key	Value
Comprehension	MCQ1

"ਓਰੀਐਂਟਲ ਆਰਟ ਆਫ਼ ਇੰਡੀਆ" ਦਾ ਸੰਪਾਦਕ ਕੌਣ ਹੈ?

1. ਇਰਾਜੀ ਰਵੀ ਵਰਮਾ
2. ਨੰਦਲਾਲ ਬੋਸ
3. ਅਪਨਿੰਦਰਨਾਥ ਟੈਗੋਰ
4. ਰਵਿੰਦਰਨਾਥ ਟੈਗੋਰ

Options :

485584144589. 1

485584144590. 2

485584144591. 3

485584144592. 4

Question Number : 398 Question Id : 48558436148 Question Type : MCQ Option Shuffling : No Is Question Mandatory : No Calculator : None  
Response Time : N.A Think Time : N.A Minimum Instruction Time : 0

Correct Marks : 5 Wrong Marks : 1

Question Key Details :

Key	Value
Comprehension	MCQ1

"ಇಂಡಿಯನ್ ಸೊಸೈಟಿ ಆಫ್ ಒರಿಯೆಂಟಲ್ ಆರ್ಟ್" ಅನೆ ವ್ಯಕ್ತಿಕನಿ ಸ್ಥಾಪಿಸಿಂವಿಂವಿ ಎವರು?

1. ರವಿಂಧ್ರನಾಥ ಠಾಗೂರ್
2. ರಾಜಾ ರವಿ ವರ್ಮ
3. ನಂದಲಾಲ್ ಬೋಸ್
4. ಅಬನಿಂಧ್ರನಾತ್ ಠಾಗೂರ್

Options :

485584144589. 1  
485584144590. 2  
485584144591. 3  
485584144592. 4

Question Number : 398 Question Id : 48558436148 Question Type : MCQ Option Shuffling : No Is Question Mandatory : No Calculator : None  
Response Time : N.A Think Time : N.A Minimum Instruction Time : 0

Correct Marks : 5 Wrong Marks : 1

Question Key Details :

Key	Value
Comprehension	MCQ1

"Indian Society of Oriented Art" کے لیے کا بنیاد گزار کون ہے ؟

1. راتندر ناتھ ٹیگور
2. راجا روى ورميا
3. اللدا نل بوس
4. اباندر ناتھ ٹیگور

Options :

485584144589. 1  
485584144590. 2  
485584144591. 3  
485584144592. 4

Question Number : 399 Question Id : 48558436149 Question Type : MCQ Option Shuffling : No Is Question Mandatory : No Calculator : None  
Response Time : N.A Think Time : N.A Minimum Instruction Time : 0

Correct Marks : 5 Wrong Marks : 1

Question Key Details :

Key	Value
Comprehension	MCQ1

Viscosity printing technique was developed by.

1. K.G. Subramanyan
2. Krishna Reddy
3. Anupam Sud
4. Soumath Hore

Options :

485584144593. 1  
485584144594. 2  
485584144595. 3  
485584144596. 4

Question Number : 399 Question Id : 48558436149 Question Type : MCQ Option Shuffling : No Is Question Mandatory : No Calculator : None  
Response Time : N.A Think Time : N.A Minimum Instruction Time : 0

Correct Marks : 5 Wrong Marks : 1

Question Key Details :

Key	Value
Comprehension	MCQ1

विस्कोसिटी छापाचित्र तकनीक किसके द्वारा विकसित की गई थी?

1. के.जी. सुब्रामन्यन
2. कृष्णा रेड्डी
3. अनुपम सूद
4. सोमनाथ होर

Options :

485584144593. 1  
485584144594. 2  
485584144595. 3  
485584144596. 4

Question Number : 399 Question Id : 48558436149 Question Type : MCQ Option Shuffling : No Is Question Mandatory : No Calculator : None  
Response Time : N.A Think Time : N.A Minimum Instruction Time : 0

Correct Marks : 5 Wrong Marks : 1

Question Key Details :

Key	Value
Comprehension	MCQ1

ভিক্সোচিটি প্রিন্টিং পদ্ধতি কোনে উলিয়াই ছিল ?

1. কে.জি. সুব্রমনায়ন
2. কৃষ্ণা রেড্डी
3. অনুপম সুদ
4. সোমনাথ হরে

Options :

485584144593. 1  
485584144594. 2  
485584144595. 3  
485584144596. 4

Question Number : 399 Question Id : 48558436149 Question Type : MCQ Option Shuffling : No Is Question Mandatory : No Calculator : None  
Response Time : N.A Think Time : N.A Minimum Instruction Time : 0

Correct Marks : 5 Wrong Marks : 1

Question Key Details :

Key	Value
Comprehension	MCQ1

ভিক্সাসিটি পেন্টিং কার शिखकला ?

1. के.जि.सुब्रह्मनाम
2. कृष्ण रेडि
3. अनुपम सुध
4. सोमनाथ होर

Options :

485584144593. 1  
485584144594. 2  
485584144595. 3  
485584144596. 4

Question Number : 399 Question Id : 48558436149 Question Type : MCQ Option Shuffling : No Is Question Mandatory : No Calculator : None Response Time : N.A Think Time : N.A Minimum Instruction Time : 0

Correct Marks : 5 Wrong Marks : 1

Question Key Details :

Key	Value
Comprehension	MCQ1

\_\_\_\_\_ द्वारा सिन्थेटा पेइन्टिंग तकनीकनी विकास करवामा आव्यी छती.

1. के.जि.सुब्रह्मनाम
2. कृष्ण रेडि
3. अनुपम सुध
4. सोमनाथ होर

Options :

485584144593. 1  
485584144594. 2  
485584144595. 3  
485584144596. 4

Question Number : 399 Question Id : 48558436149 Question Type : MCQ Option Shuffling : No Is Question Mandatory : No Calculator : None Response Time : N.A Think Time : N.A Minimum Instruction Time : 0

Correct Marks : 5 Wrong Marks : 1

Question Key Details :

Key	Value
Comprehension	MCQ1

विस्फुरकनी मूद्रण तकनीकनी आविष्कार करवामा आव्यी छती.

1. के.जे.सुब्रह्मनाम
2. कृष्ण रेडि
3. अनुपम सुध
4. सोमनाथ होर

Options :

485584144593. 1  
485584144594. 2  
485584144595. 3  
485584144596. 4

Question Number : 399 Question Id : 48558436149 Question Type : MCQ Option Shuffling : No Is Question Mandatory : No Calculator : None Response Time : N.A Think Time : N.A Minimum Instruction Time : 0

Correct Marks : 5 Wrong Marks : 1

Question Key Details :

Key	Value
Comprehension	MCQ1

വിസ്കോസിറ്റി പെയിന്റിന്റെ സാങ്കേതിക വിദ്യ വികസിപ്പിച്ചതാരാണ് ?

1. കെ.ജി. സുബ്രമണ്യൻ
2. കൃഷ്ണ റെഡി
3. അനൂപം സുധ്
4. സോമനാഥ് ഹോർ

Options :

485584144593. 1

485584144594. 2

485584144595. 3

485584144596. 4

Question Number : 399 Question Id : 48558436149 Question Type : MCQ Option Shuffling : No Is Question Mandatory : No Calculator : None Response Time : N.A Think Time : N.A Minimum Instruction Time : 0

Correct Marks : 5 Wrong Marks : 1

Question Key Details :

Key	Value
Comprehension	MCQ1

(ക്രിസകോസിറ്റി പ്രിന്റിംഗ് തंत्रം) വിപ്ലവിതാ ഊപാർ തंत्रം കഠിനീ വികസित കേര?

1. കെ. ജി. സുബ്രമണ്യൻ
2. കൃഷ്ണ റെഡി
3. അനൂപം സുധ്
4. സോമനാഥ് ഹോർ

Options :

485584144593. 1

485584144594. 2

485584144595. 3

485584144596. 4

Question Number : 399 Question Id : 48558436149 Question Type : MCQ Option Shuffling : No Is Question Mandatory : No Calculator : None Response Time : N.A Think Time : N.A Minimum Instruction Time : 0

Correct Marks : 5 Wrong Marks : 1

Question Key Details :

Key	Value
Comprehension	MCQ1



ଗିଲ୍ୟେସ୍‌ର ଗ୍ରହଣ ବେଳର ନିମ୍ନ ଲିଖିତ କଣ ଠିକ୍ ଭାବରେ ବୁଝାଏ:

1. କେ.ପି. ପ୍ଲୁଟୋ
2. ବୁଧ ଗ୍ରହ
3. ଅନୁପମ ଗ୍ରହ
4. ଯୋଗ୍ୟ ଗ୍ରହ

**Options :**

485584144593. 1  
485584144594. 2  
485584144595. 3  
485584144596. 4

**Question Number : 399 Question Id : 48558436149 Question Type : MCQ Option Shuffling : No Is Question Mandatory : No Calculator : None Response Time : N.A Think Time : N.A Minimum Instruction Time : 0**

**Correct Marks : 5 Wrong Marks : 1**

**Question Key Details :**

Key	Value
Comprehension	MCQ1

ଏକ ସ୍ଵାଧୀନ ବିକାଶ ବିକାଶ କିପରି ଘଟେ?

1. କେ.ପି. ମୁଖ୍ୟମନ୍ତ୍ରୀ
2. ବିକାଶ ଶକ୍ତି
3. ଅନୁପମ ମୁଖ୍ୟ
4. ମେନାସ୍ ଶକ୍ତି

**Options :**

485584144593. 1  
485584144594. 2  
485584144595. 3  
485584144596. 4

**Question Number : 399 Question Id : 48558436149 Question Type : MCQ Option Shuffling : No Is Question Mandatory : No Calculator : None Response Time : N.A Think Time : N.A Minimum Instruction Time : 0**

**Correct Marks : 5 Wrong Marks : 1**

**Question Key Details :**

Key	Value
Comprehension	MCQ1

ପାଣ୍ଡିଆଲ୍ ଅସ୍ତିତ୍ଵ ଉପରେ ଉପଲବ୍ଧ ଉପାଦାନଗୁଡ଼ିକ:

1. କେ.ପି. କର୍ମଚାରୀ
2. ବିକାଶ ଶକ୍ତି
3. ଅନୁପମ ମୁଖ୍ୟ
4. ମେନାସ୍ ଶକ୍ତି

**Options :**

485584144593. 1  
485584144594. 2  
485584144595. 3

485584144596. 4

Question Number : 399 Question Id : 48558436149 Question Type : MCQ Option Shuffling : No Is Question Mandatory : No Calculator : None  
Response Time : N.A Think Time : N.A Minimum Instruction Time : 0  
Correct Marks : 5 Wrong Marks : 1

Question Key Details :

Key	Value
Comprehension	MCQ1

విస్కాసిటీ ప్రింటింగ్ సాంకేతికతను అభివృద్ధి పరిచినది

1. కె.జి. సుబ్రహ్మణ్యం
2. కృష్ణ రెడ్డి
3. అనుపం సుద్
4. సోమార్ హారే

Options :

485584144593. 1  
485584144594. 2  
485584144595. 3  
485584144596. 4

Question Number : 399 Question Id : 48558436149 Question Type : MCQ Option Shuffling : No Is Question Mandatory : No Calculator : None  
Response Time : N.A Think Time : N.A Minimum Instruction Time : 0

Correct Marks : 5 Wrong Marks : 1

Question Key Details :

Key	Value
Comprehension	MCQ1

“Viscosity” برائے کئی لفظوں کے لئے فرہنگ لیا گیا۔

1. کسے جس سے امین
2. کرائی ریشی
3. لویم بند
4. سوم نائیبور

Options :

485584144593. 1  
485584144594. 2  
485584144595. 3  
485584144596. 4

Question Number : 400 Question Id : 48558436150 Question Type : MCQ Option Shuffling : No Is Question Mandatory : No Calculator : None  
Response Time : N.A Think Time : N.A Minimum Instruction Time : 0

Correct Marks : 5 Wrong Marks : 1

Question Key Details :

Key	Value
Comprehension	MCQ1

Which Sub-School in Rajasthani Miniature Painting is considered as the early Centre of painting in Rajasthan.

1. Bundi
2. Bikaner
3. Jaipur
4. Mewar

**Options :**

485584144597. 1  
485584144598. 2  
485584144599. 3  
485584144600. 4

**Question Number : 400 Question Id : 48558436150 Question Type : MCQ Option Shuffling : No Is Question Mandatory : No Calculator : None Response Time : N.A Think Time : N.A Minimum Instruction Time : 0**

**Correct Marks : 5 Wrong Marks : 1**

**Question Key Details :**

Key	Value
Comprehension	MCQ1

राजस्थानी लघु चित्रकला की किस उप-शैली को राजस्थान का आरंभिक केंद्र माना जाता है?

1. बुंदी
2. बीकानेर
3. जयपुर
4. मेवाड़

**Options :**

485584144597. 1  
485584144598. 2  
485584144599. 3  
485584144600. 4

**Question Number : 400 Question Id : 48558436150 Question Type : MCQ Option Shuffling : No Is Question Mandatory : No Calculator : None Response Time : N.A Think Time : N.A Minimum Instruction Time : 0**

**Correct Marks : 5 Wrong Marks : 1**

**Question Key Details :**

Key	Value
Comprehension	MCQ1

তলৰ কোনটো উপশৈলী ৰাজস্থানী মিনি.এচিউৰ চিত্ৰশিল্প ৰাজস্থানৰ প্ৰাৰম্ভিক চিত্ৰশিল্প ?

1. বুল্দি
2. বীকানেৰ
3. জয়পুৰ
4. মেৱাৰ

**Options :**

485584144597. 1  
485584144598. 2  
485584144599. 3  
485584144600. 4

Question Number : 400 Question Id : 48558436150 Question Type : MCQ Option Shuffling : No Is Question Mandatory : No Calculator : None  
Response Time : N.A Think Time : N.A Minimum Instruction Time : 0

Correct Marks : 5 Wrong Marks : 1

Question Key Details :

Key	Value
Comprehension	MCQ1

राजस्थानी मिनियेचार पेन्डिं एर मध्ये प्रथम राजस्थानी पेन्डिं एर स्याब कुल कोनटि ?

1. बुन्दि
2. विकानेर
3. जयपुर
4. मेण्णार

Options :

485584144597. 1  
485584144598. 2  
485584144599. 3  
485584144600. 4

Question Number : 400 Question Id : 48558436150 Question Type : MCQ Option Shuffling : No Is Question Mandatory : No Calculator : None  
Response Time : N.A Think Time : N.A Minimum Instruction Time : 0

Correct Marks : 5 Wrong Marks : 1

Question Key Details :

Key	Value
Comprehension	MCQ1

राजस्थानी वयु शिखर पेठन्टिगनी कड पेठा शाणाने राजस्थानमां शिखरकामनुं प्रारंभिक केन्द्र मानवामां आवे छे ?

1. भुट्टी
2. विकानेर
3. जयपुर
4. मेवाड

Options :

485584144597. 1  
485584144598. 2  
485584144599. 3  
485584144600. 4

Question Number : 400 Question Id : 48558436150 Question Type : MCQ Option Shuffling : No Is Question Mandatory : No Calculator : None  
Response Time : N.A Think Time : N.A Minimum Instruction Time : 0

Correct Marks : 5 Wrong Marks : 1

Question Key Details :

Key	Value
Comprehension	MCQ1

ರಾಜಸ್ಥಾನಿ ಚಿಕಿತ್ಸೆ ಕಿರುಚಿತ್ರಕಲೆಯಲ್ಲಿ ಯಾವ ಉಪಕರಣವನ್ನು ರಾಜಸ್ಥಾನದಲ್ಲಿ ಆರಂಭಿಕ ಚಿತ್ರಕಲೆಯ ಕೇಂದ್ರವೆಂದು ಪರಿಗಣಿಸಲಾಗಿದೆ?

1. ಬುಂಡಿ
2. ಬಿಕ್ನೇಲ್
3. ಜೈಪುರ
4. ಮೇವಾರ್

**Options :**

485584144597. 1  
485584144598. 2  
485584144599. 3  
485584144600. 4

**Question Number : 400 Question Id : 48558436150 Question Type : MCQ Option Shuffling : No Is Question Mandatory : No Calculator : None Response Time : N.A Think Time : N.A Minimum Instruction Time : 0**

**Correct Marks : 5 Wrong Marks : 1**

**Question Key Details :**

Key	Value
Comprehension	MCQ1

ರಾಜಸ್ಥಾನದಲ್ಲಿ ಪುರಾತನ ಪೆಯಿಂಟಿಂಗ್‌ಗಳಿಗೆ ಕೇಂದ್ರವಾಗಿ ಕುಣಿಯಲಾಗುತ್ತಿರುವ ರಾಜಸ್ಥಾನದ ಖನಿಗಾರ್ಥದ ಪೆಯಿಂಟಿಂಗ್‌ಗಳಿಗೆ ಏಕೆ ಉಪಯುಕ್ತವಾಗಿದೆ ?

1. ಖನಿಗಾರ್ಥ
2. ಖನಿಗಾರ್ಥ
3. ಖನಿಗಾರ್ಥ
4. ಖನಿಗಾರ್ಥ

**Options :**

485584144597. 1  
485584144598. 2  
485584144599. 3  
485584144600. 4

**Question Number : 400 Question Id : 48558436150 Question Type : MCQ Option Shuffling : No Is Question Mandatory : No Calculator : None Response Time : N.A Think Time : N.A Minimum Instruction Time : 0**

**Correct Marks : 5 Wrong Marks : 1**

**Question Key Details :**

Key	Value
Comprehension	MCQ1

ರಾಜಸ್ಥಾನದ ಯಾವ ಪ್ರದೇಶದ ಜ್ಯೋತಿರ್ಲಿಂಗವನ್ನು ರಾಜಸ್ಥಾನದಲ್ಲಿ ಆರಂಭಿಕ ಚಿತ್ರಕಲೆಯ ಕೇಂದ್ರವೆಂದು ಪರಿಗಣಿಸಲಾಗಿದೆ?

1. ಬುಂಡಿ
2. ಬಿಕ್ನೇಲ್
3. ಜೈಪುರ
4. ಮೇವಾರ್

**Options :**

485584144597. 1  
485584144598. 2

485584144599. 3

485584144600. 4

Question Number : 400 Question Id : 48558436150 Question Type : MCQ Option Shuffling : No Is Question Mandatory : No Calculator : None  
Response Time : N.A Think Time : N.A Minimum Instruction Time : 0

Correct Marks : 5 Wrong Marks : 1

Question Key Details :

Key	Value
Comprehension	MCQ1

କେଉଁ ସର-ସ୍ତମ୍ଭ ରାଜସ୍ଥାନୀ ମିଳି-ଠିକ୍ ବିକ୍ରମ ପ୍ରାକୃତିକ କେନ୍ଦ୍ର ଅଟେ ?

1. ବୁଝି

2. ବିକାଳାନ୍ତ

3. କରାପୁର

4. ମେଘାଳ

Options :

485584144597. 1

485584144598. 2

485584144599. 3

485584144600. 4

Question Number : 400 Question Id : 48558436150 Question Type : MCQ Option Shuffling : No Is Question Mandatory : No Calculator : None  
Response Time : N.A Think Time : N.A Minimum Instruction Time : 0

Correct Marks : 5 Wrong Marks : 1

Question Key Details :

Key	Value
Comprehension	MCQ1

ରାଜମହାନୀ ଲାଘୁ ଚିତ୍ରତ ମସ ମସୁଳା ଦିଂସି କିମନ୍ତୁ ରାଜମହାନ ଦିଂସି ଚିତ୍ରତାଂ ଡା ପୁଟାଟା ବେଢ଼ା ମିଳିଆ ନାଂଡା ଚି?

1. ସୁଝି

2. ସିବାଲେତ

3. ନେଧିତ

4. ମେଢ଼ାତ

Options :

485584144597. 1

485584144598. 2

485584144599. 3

485584144600. 4

Question Number : 400 Question Id : 48558436150 Question Type : MCQ Option Shuffling : No Is Question Mandatory : No Calculator : None  
Response Time : N.A Think Time : N.A Minimum Instruction Time : 0

Correct Marks : 5 Wrong Marks : 1

Question Key Details :

Key	Value
Comprehension	MCQ1

எந்த ராஜஸ்தானிய நுண்கலை ஓவியத்திற்கான துணைப்பள்ளி ராஜஸ்தானிய ஓவியத்திற்கான பழைய மையமாக விளங்குவதாக கருதப்படுகிறது?

1. புந்தி
2. பிகானெர்
3. ஜெய்பூர்
4. மேவார்

Options :

485584144597. 1  
485584144598. 2  
485584144599. 3  
485584144600. 4

Question Number : 400 Question Id : 48558436150 Question Type : MCQ Option Shuffling : No Is Question Mandatory : No Calculator : None Response Time : N.A Think Time : N.A Minimum Instruction Time : 0

Correct Marks : 5 Wrong Marks : 1

Question Key Details :

Key	Value
Comprehension	MCQ1

राजस्थान की एक पारंपरिक राजस्थानी लघु वृद्ध चित्रकारी को मुद्रा के रूप में जाना जाता है

1. बुन्दी
2. बिकानेर
3. जयपुर
4. मेवार

Options :

485584144597. 1  
485584144598. 2  
485584144599. 3  
485584144600. 4

Question Number : 400 Question Id : 48558436150 Question Type : MCQ Option Shuffling : No Is Question Mandatory : No Calculator : None Response Time : N.A Think Time : N.A Minimum Instruction Time : 0

Correct Marks : 5 Wrong Marks : 1

Question Key Details :

Key	Value
Comprehension	MCQ1

राजस्थान में जीवित शिल्प शिक्षा का कौन सा स्थान राजस्थान में शिक्षा का अत्याधिक संकेतक है ?

1. बुन्दी
2. बिकानेर
3. जयपुर
4. मेवार

Options :

485584144597. 1  
485584144598. 2  
485584144599. 3  
485584144600. 4

Question Number : 401 Question Id : 48558436151 Question Type : MCQ Option Shuffling : No Is Question Mandatory : No Calculator : None Response Time : N.A Think Time : N.A Minimum Instruction Time : 0

Correct Marks : 5 Wrong Marks : 1

Question Key Details :

Key	Value
Comprehension	MCQ1

Which game is being played by six princesses in the painting "Chauhan Players" from Jodhpur Sub School?

1. Polo
2. Hockey
3. Badminton
4. Football

Options :

485584144601. 1  
485584144602. 2  
485584144603. 3  
485584144604. 4

Question Number : 401 Question Id : 48558436151 Question Type : MCQ Option Shuffling : No Is Question Mandatory : No Calculator : None Response Time : N.A Think Time : N.A Minimum Instruction Time : 0

Correct Marks : 5 Wrong Marks : 1

Question Key Details :

Key	Value
Comprehension	MCQ1

जोधपुर उप-शैली के चित्र 'चौहान खिलाड़ी' में छः राजकुमारियां कौनसा खेल खेल रही हैं?

1. पोलो
2. हॉकी
3. बैडमिंटन
4. फुटबॉल

Options :

485584144601. 1  
485584144602. 2  
485584144603. 3  
485584144604. 4

Question Number : 401 Question Id : 48558436151 Question Type : MCQ Option Shuffling : No Is Question Mandatory : No Calculator : None Response Time : N.A Think Time : N.A Minimum Instruction Time : 0

Correct Marks : 5 Wrong Marks : 1

Question Key Details :

Key	Value
Comprehension	MCQ1



"চৌহান প্ৰেয়াৰচ" নামৰ যোৰপুৰ উপশৈলীৰ চিত্ৰশিল্পখনত ৬ গৰাকী ৰাজকুমাৰীয়ে খেলি থকা খেলাটো কি ?

1. পল'
2. হকী
3. বেডমিন্টন
4. ফুটবল

**Options :**

485584144601. 1
485584144602. 2
485584144603. 3
485584144604. 4

**Question Number : 401 Question Id : 48558436151 Question Type : MCQ Option Shuffling : No Is Question Mandatory : No Calculator : None Response Time : N.A Think Time : N.A Minimum Instruction Time : 0**

**Correct Marks : 5 Wrong Marks : 1**

**Question Key Details :**

Key	Value
Comprehension	MCQ1

যোৰপুৰেৰ সাৰ স্কুলে 'চৌহান প্ৰেয়াৰচ' পেন্টিং এৰ মध्ये ছয়জন ৰাজকুমাৰী মিলে কোন খেলা খেলাছিল ?

1. পোলো
2. হকী
3. ব্যাডমিন্টন
4. ফুটবল

**Options :**

485584144601. 1
485584144602. 2
485584144603. 3
485584144604. 4

**Question Number : 401 Question Id : 48558436151 Question Type : MCQ Option Shuffling : No Is Question Mandatory : No Calculator : None Response Time : N.A Think Time : N.A Minimum Instruction Time : 0**

**Correct Marks : 5 Wrong Marks : 1**

**Question Key Details :**

Key	Value
Comprehension	MCQ1

জৌমপুৰনী পেটা স্কুলনী "Chauhan Players" পেণ্টিংসমাং ৭ ৰাজকুমাৰীসী কৰ্ঠ স্মত স্মে ৭ ?

1. পৌৰী
2. হকী
3. বেডমিন্টন
4. ফুটবল

**Options :**

485584144601. 1
485584144602. 2
485584144603. 3
485584144604. 4



जोधपूर उप शालेतील "चौहान खेळाडू" ह्या चित्रात सहा राजकन्या कोणता खेळ खेळत आहेत?

1. पोलो
2. हॉकी
3. बॅडमिंटन
4. फूटबॉल

**Options :**

485584144601. 1  
485584144602. 2  
485584144603. 3  
485584144604. 4

**Question Number : 401 Question Id : 48558436151 Question Type : MCQ Option Shuffling : No Is Question Mandatory : No Calculator : None Response Time : N.A Think Time : N.A Minimum Instruction Time : 0**

**Correct Marks : 5 Wrong Marks : 1**

**Question Key Details :**

Key	Value
Comprehension	MCQ1

केरळ राज्याच्या राज्य सरकारने "केरळ राज्याचे" 6 वेळ वास्तविकतांचे काला खेळा खेळते.

1. वेगवेगळे
2. खेळ
3. वास्तविकता
4. घुबवणे

**Options :**

485584144601. 1  
485584144602. 2  
485584144603. 3  
485584144604. 4

**Question Number : 401 Question Id : 48558436151 Question Type : MCQ Option Shuffling : No Is Question Mandatory : No Calculator : None Response Time : N.A Think Time : N.A Minimum Instruction Time : 0**

**Correct Marks : 5 Wrong Marks : 1**

**Question Key Details :**

Key	Value
Comprehension	MCQ1

नेपाथर मधु मधुल विंचे चिंतित " चोगान धिडाची " विंचे हे राटीआं विचडी धेड धेडसीआं रत?

1. पेसे
2. रावी
3. बॅडमिंटन
4. हुंटासल

**Options :**

485584144601. 1  
485584144602. 2  
485584144603. 3

485584144604. 4

Question Number : 401 Question Id : 48558436151 Question Type : MCQ Option Shuffling : No Is Question Mandatory : No Calculator : None  
Response Time : N.A Think Time : N.A Minimum Instruction Time : 0  
Correct Marks : 5 Wrong Marks : 1

Question Key Details :

Key	Value
Comprehension	MCQ1

ஜோத்பூர் துணைப்பள்ளியின் "சௌஹான் பிளேயர்ஸ்" எனும் ஒவியத்தில் ஆறு இளவரசிகள் எந்த விளையட்டை விளையாடுவதாக காட்டப்பட்டுள்ளது?

1. போலோ
2. ஹாக்கி
3. மென்பந்து
4. கால்பந்து

Options :

485584144601. 1  
485584144602. 2  
485584144603. 3  
485584144604. 4

Question Number : 401 Question Id : 48558436151 Question Type : MCQ Option Shuffling : No Is Question Mandatory : No Calculator : None  
Response Time : N.A Think Time : N.A Minimum Instruction Time : 0  
Correct Marks : 5 Wrong Marks : 1

Question Key Details :

Key	Value
Comprehension	MCQ1

ஜீத்பூர் சுவ பால்கால நண்டலி "சௌஹான் பிளேயர்ஸ்" அனே சித்ரலேఖனம் லீ ஆருகூரு ராணுலு அடூசுந்நு அடூ ஷேரு?

1. லூலீ
2. ஷூகீ
3. ஷூடூங்டூன்
4. ஷூலீலூலீ

Options :

485584144601. 1  
485584144602. 2  
485584144603. 3  
485584144604. 4

Question Number : 401 Question Id : 48558436151 Question Type : MCQ Option Shuffling : No Is Question Mandatory : No Calculator : None  
Response Time : N.A Think Time : N.A Minimum Instruction Time : 0  
Correct Marks : 5 Wrong Marks : 1

Question Key Details :

Key	Value
Comprehension	MCQ1

جو ذہیور نڈلی اسکول سے "جوبان کھاتڑی" میں چه شیر انیوں سے کون سا کھیل کھیلا تھا ؟

1. یوٹو
2. بانی
3. بیٹھن
4. نٹل

**Options :**

485584144601. 1
485584144602. 2
485584144603. 3
485584144604. 4

**Question Number : 402 Question Id : 48558436152 Question Type : MCQ Option Shuffling : No Is Question Mandatory : No Calculator : None Response Time : N.A Think Time : N.A Minimum Instruction Time : 0**

**Correct Marks : 5 Wrong Marks : 1**

**Question Key Details :**

Key	Value
Comprehension	MCQ1

Who is the artist of the painting "Bani-Thani" of Rajasthani School of miniature painting?

1. Nainsukh
2. Nihal Chand
3. Manaku
4. Miskin

**Options :**

485584144605. 1
485584144606. 2
485584144607. 3
485584144608. 4

**Question Number : 402 Question Id : 48558436152 Question Type : MCQ Option Shuffling : No Is Question Mandatory : No Calculator : None Response Time : N.A Think Time : N.A Minimum Instruction Time : 0**

**Correct Marks : 5 Wrong Marks : 1**

**Question Key Details :**

Key	Value
Comprehension	MCQ1

राजस्थानी चित्रशैली के चित्र "बनी-ठनी" के कलाकार कौन हैं?

1. नैनसुख
2. निहाल चंद
3. मनकू
4. मिस्किन

**Options :**

485584144605. 1
485584144606. 2
485584144607. 3
485584144608. 4

Question Number : 402 Question Id : 48558436152 Question Type : MCQ Option Shuffling : No Is Question Mandatory : No Calculator : None Response Time : N.A Think Time : N.A Minimum Instruction Time : 0

Correct Marks : 5 Wrong Marks : 1

Question Key Details :

Key	Value
Comprehension	MCQ1

" বানী থামী " নামৰ ৰাজস্থানী মিনিএছিউৰ চিত্ৰশিল্পৰ শিল্পী গৰাকী কোন ?

1. নেনসুথ
2. নিহাল চান্দ
3. মানাকু
4. মিস্কিন

Options :

485584144605. 1  
485584144606. 2  
485584144607. 3  
485584144608. 4

Question Number : 402 Question Id : 48558436152 Question Type : MCQ Option Shuffling : No Is Question Mandatory : No Calculator : None Response Time : N.A Think Time : N.A Minimum Instruction Time : 0

Correct Marks : 5 Wrong Marks : 1

Question Key Details :

Key	Value
Comprehension	MCQ1

ৰাজস্থানী স্কুল অফ মিনিএছিউৰ পেণ্টিং এৰ ( বানী থামী ) চিত্ৰশিল্পী কে ছিলেন ?

1. নয়নসুথ
2. নিহাল চাঁদ
3. মানাকু
4. মিস্কিন

Options :

485584144605. 1  
485584144606. 2  
485584144607. 3  
485584144608. 4

Question Number : 402 Question Id : 48558436152 Question Type : MCQ Option Shuffling : No Is Question Mandatory : No Calculator : None Response Time : N.A Think Time : N.A Minimum Instruction Time : 0

Correct Marks : 5 Wrong Marks : 1

Question Key Details :

Key	Value
Comprehension	MCQ1

राजस्थानी स्तूपना वसुधित्तु पेट्टिग "अनी-थनी" ना कवाकार कीषा छै ?

1. नैनसुअ
2. निहाव चंड
3. मनाकु
4. मिस्कीन

Options :

485584144605. 1  
485584144606. 2  
485584144607. 3  
485584144608. 4

Question Number : 402 Question Id : 48558436152 Question Type : MCQ Option Shuffling : No Is Question Mandatory : No Calculator : None Response Time : N.A Think Time : N.A Minimum Instruction Time : 0

Correct Marks : 5 Wrong Marks : 1

Question Key Details :

Key	Value
Comprehension	MCQ1

राजस्थान अलैयु बीकरी/करुबीतुकल बीतुकल (अनी-अमी)यु कलालिद यारु?

1. नैनसुअ
2. निहाव चंड
3. मनाकु
4. मिस्कीन

Options :

485584144605. 1  
485584144606. 2  
485584144607. 3  
485584144608. 4

Question Number : 402 Question Id : 48558436152 Question Type : MCQ Option Shuffling : No Is Question Mandatory : No Calculator : None Response Time : N.A Think Time : N.A Minimum Instruction Time : 0

Correct Marks : 5 Wrong Marks : 1

Question Key Details :

Key	Value
Comprehension	MCQ1

राजस्थानी सुनुवठायअलिउलु अिनिठयअुठै अैअलिठुठाय 'अानी अामी' युठे सुनुअुअुठुठु ?

1. नयिठसुठुठु
2. निअुठुठु अुठु
3. अैठुठुठु
4. अिठुठुठु

Options :

485584144605. 1  
485584144606. 2  
485584144607. 3

485584144608. 4

Question Number : 402 Question Id : 48558436152 Question Type : MCQ Option Shuffling : No Is Question Mandatory : No Calculator : None Response Time : N.A Think Time : N.A Minimum Instruction Time : 0

Correct Marks : 5 Wrong Marks : 1

Question Key Details :

Key	Value
Comprehension	MCQ1

"बानी-धानी" या राजस्थानी लघु चित्रकलेतील चित्राचे कलाकार कोण आहेत?

1. नैनसूख
2. निहाल चंद
3. मनाकू
4. मिस्किन

Options :

485584144605. 1  
485584144606. 2  
485584144607. 3  
485584144608. 4

Question Number : 402 Question Id : 48558436152 Question Type : MCQ Option Shuffling : No Is Question Mandatory : No Calculator : None Response Time : N.A Think Time : N.A Minimum Instruction Time : 0

Correct Marks : 5 Wrong Marks : 1

Question Key Details :

Key	Value
Comprehension	MCQ1

ଚିତ୍ର (ବନି-ଧାନୀ) ରାଜସ୍ଥାନୀ ଲଘୁ ଚିତ୍ରକଳାରେ ଚିତ୍ରକାର କିଏ ?

1. ନୂନସୁଖ
2. ନିହାଲ ଚନ୍ଦ
3. ମନାକୂ
4. ମିସ୍କିନ

Options :

485584144605. 1  
485584144606. 2  
485584144607. 3  
485584144608. 4

Question Number : 402 Question Id : 48558436152 Question Type : MCQ Option Shuffling : No Is Question Mandatory : No Calculator : None Response Time : N.A Think Time : N.A Minimum Instruction Time : 0

Correct Marks : 5 Wrong Marks : 1

Question Key Details :

Key	Value
Comprehension	MCQ1



ਰਾਜਸਥਾਨੀ ਲਘੂ ਚਿੱਤਰ ਸਕੂਲ ਦੇ ਚਿੱਤਰ ' ਬਾਨੀ-ਠਾਨੀ ' ਦਾ ਕਲਾਕਾਰ ਕੌਣ ਹੈ?

1. ਨੈਨਸ਼ੰਖ
2. ਨਿਹਾਲ ਚੰਦ
3. ਮਨਬੁ
4. ਮਿਸ਼ਕਿਨ

**Options :**

485584144605. 1
485584144606. 2
485584144607. 3
485584144608. 4

**Question Number : 402 Question Id : 48558436152 Question Type : MCQ Option Shuffling : No Is Question Mandatory : No Calculator : None Response Time : N.A Think Time : N.A Minimum Instruction Time : 0**

**Correct Marks : 5 Wrong Marks : 1**

**Question Key Details :**

Key	Value
Comprehension	MCQ1

(ਪਾਨੀ-ਠਾਨੀ) ਈਨੁਮ ਨੁਠਨਕਲੇ ਓਵੀਯਕੁਠਿਰੁਕਾਨ ਰਾਯਸੁਠਾਨੀਯ ਪਲੁਲੀਯੀਨ ਓਵੀਯਕੁਠੇ ਕੀੜੀਯ ਕਲੇਲੁਰ ਯਾਰ?

1. ਨੈਨਸ਼ੰਖ
2. ਨੀਠੁਠਾਲੁ ਸੁਠੁਠੁ
3. ਮਨਾਕੁ
4. ਮੀਸੁਕਿਨ

**Options :**

485584144605. 1
485584144606. 2
485584144607. 3
485584144608. 4

**Question Number : 402 Question Id : 48558436152 Question Type : MCQ Option Shuffling : No Is Question Mandatory : No Calculator : None Response Time : N.A Think Time : N.A Minimum Instruction Time : 0**

**Correct Marks : 5 Wrong Marks : 1**

**Question Key Details :**

Key	Value
Comprehension	MCQ1

ਰਾਸ਼ੁਠੀ ਸੁਕੁਲੁ ਕੀ ਚੋਠੀਨ "ਬਨੀ ਠਾਮੀ" ਈਨਬਠੇ ਲਘੂ ਵਠੁ ਚਿਤੁਰਾਨੁ ਠੁਠੁਠੁ ਚੋਸਿਨ ਕੁਠਾਕਾਰੁਠੁ ਏਠੁਰੁ?

1. ਨੈਨਸ਼ੰਖ
2. ਨੀਠੁਠੁ ਠਾਠੁ
3. ਮਨਕੁ
4. ਮੀਸੁਕਿਨ

**Options :**

485584144605. 1
485584144606. 2

485584144607. 3  
485584144608. 4

Question Number : 402 Question Id : 48558436152 Question Type : MCQ Option Shuffling : No Is Question Mandatory : No Calculator : None  
Response Time : N.A Think Time : N.A Minimum Instruction Time : 0  
Correct Marks : 5 Wrong Marks : 1

Question Key Details :

Key	Value
Comprehension	MCQ1

راجستھان اسکول آف مینی ایجر بیتنگ (Bani-Thami) کا فن کار کون ہے ؟

1. نین سنگھ
2. بہل چند
3. منگور
4. مسگر

Options :

485584144605. 1  
485584144606. 2  
485584144607. 3  
485584144608. 4

Question Number : 403 Question Id : 48558436153 Question Type : MCQ Option Shuffling : No Is Question Mandatory : No Calculator : None  
Response Time : N.A Think Time : N.A Minimum Instruction Time : 0  
Correct Marks : 5 Wrong Marks : 1

Question Key Details :

Key	Value
Comprehension	MCQ1

Who among the following is considered as a tantric painter?

1. M.F. Husain
2. Dhanraj Bharat
3. Krishna Reddy
4. G.R. Santosh

Options :

485584144609. 1  
485584144610. 2  
485584144611. 3  
485584144612. 4

Question Number : 403 Question Id : 48558436153 Question Type : MCQ Option Shuffling : No Is Question Mandatory : No Calculator : None  
Response Time : N.A Think Time : N.A Minimum Instruction Time : 0  
Correct Marks : 5 Wrong Marks : 1

Question Key Details :

Key	Value
Comprehension	MCQ1

निम्न में किसे तांत्रिक चित्रकार माना जाता है?

1. एम.एफ. हुसेन
2. धनराज भारत
3. कृष्णा रेड्डी
4. जी.आर. संतोष

**Options :**

485584144609. 1  
485584144610. 2  
485584144611. 3  
485584144612. 4

**Question Number : 403 Question Id : 48558436153 Question Type : MCQ Option Shuffling : No Is Question Mandatory : No Calculator : None Response Time : N.A Think Time : N.A Minimum Instruction Time : 0**

**Correct Marks : 5 Wrong Marks : 1**

**Question Key Details :**

Key	Value
Comprehension	MCQ1

তান্ত্রিক শিল্পী বুলি কারক জনা যায় ?

1. এম.এফ. হুসেইন
2. ধনরাজ ভারত
3. কৃষ্ণা বেড্‌সী
4. জি.আর.সন্তোষ

**Options :**

485584144609. 1  
485584144610. 2  
485584144611. 3  
485584144612. 4

**Question Number : 403 Question Id : 48558436153 Question Type : MCQ Option Shuffling : No Is Question Mandatory : No Calculator : None Response Time : N.A Think Time : N.A Minimum Instruction Time : 0**

**Correct Marks : 5 Wrong Marks : 1**

**Question Key Details :**

Key	Value
Comprehension	MCQ1

কাকে একজন তান্ত্রিক চিত্রশিল্পী বলা হোত ?

1. এম.এফ. হোসেন
2. ধনরাজ ভারত
3. কৃষ্ণা রেড্‌ডি
4. জি.আর.সন্তোষ

**Options :**

485584144609. 1  
485584144610. 2  
485584144611. 3  
485584144612. 4

Question Number : 403 Question Id : 48558436153 Question Type : MCQ Option Shuffling : No Is Question Mandatory : No Calculator : None  
Response Time : N.A Think Time : N.A Minimum Instruction Time : 0

Correct Marks : 5 Wrong Marks : 1

Question Key Details :

Key	Value
Comprehension	MCQ1

નીચે પૈકી કોને તાંત્રિક પેઇન્ટર તરીકે ગણવામાં આવે છે ?

1. એમ. એફ. ક્રુસેન
2. ધનરાજ ભારત
3. કિષ્કા રેડ્ડી
4. જી. આર. સંતીષ

Options :

485584144609. 1

485584144610. 2

485584144611. 3

485584144612. 4

Question Number : 403 Question Id : 48558436153 Question Type : MCQ Option Shuffling : No Is Question Mandatory : No Calculator : None  
Response Time : N.A Think Time : N.A Minimum Instruction Time : 0

Correct Marks : 5 Wrong Marks : 1

Question Key Details :

Key	Value
Comprehension	MCQ1

કાંત્રિક ચિત્રકાર એવું યોરનું પરીગણેસલાગે?

1. એ.એફ. ક્રુસેન
2. ધનરાજ ભારત
3. કિષ્કા રેડ્ડી
4. જી. આર. સંતીષ

Options :

485584144609. 1

485584144610. 2

485584144611. 3

485584144612. 4

Question Number : 403 Question Id : 48558436153 Question Type : MCQ Option Shuffling : No Is Question Mandatory : No Calculator : None  
Response Time : N.A Think Time : N.A Minimum Instruction Time : 0

Correct Marks : 5 Wrong Marks : 1

Question Key Details :

Key	Value
Comprehension	MCQ1

താഴെ പറയുന്നവയിൽ ഏത് അറിയപ്പെടുന്നതാണ് ?

1. എം.എഫ്. ഹുസൈൻ
2. ധനരാജ് ഭരത്
3. കൃഷ്ണ രെഡ്ഡി
4. ജി.ആർ. സതോഷ്

Options :

485584144609. 1
485584144610. 2
485584144611. 3
485584144612. 4

Question Number : 403 Question Id : 48558436153 Question Type : MCQ Option Shuffling : No Is Question Mandatory : No Calculator : None Response Time : N.A Think Time : N.A Minimum Instruction Time : 0

Correct Marks : 5 Wrong Marks : 1

Question Key Details :

Key	Value
Comprehension	MCQ1

खालील पैकी कोणाला तांत्रिक चित्रकार म्हणून ओळखतात?

1. एम. एफ. हुसैन
2. धनराज भारत
3. कृष्णा रेड्डी
4. जी. आर. संतोष

Options :

485584144609. 1
485584144610. 2
485584144611. 3
485584144612. 4

Question Number : 403 Question Id : 48558436153 Question Type : MCQ Option Shuffling : No Is Question Mandatory : No Calculator : None Response Time : N.A Think Time : N.A Minimum Instruction Time : 0

Correct Marks : 5 Wrong Marks : 1

Question Key Details :

Key	Value
Comprehension	MCQ1

ଉତ୍ତର ଇଂଲଣ୍ଡର କାହାକୁ କୁହାଯାଏ ?

1. ଏମ. ଏଫ. ହୁସେନ
2. ଧନରାଜ ଭରତ
3. କୃଷ୍ଣ ରେଡ୍ଡୀ
4. ଜି.ଆର୍. ସତୋଷ

Options :

485584144609. 1
485584144610. 2
485584144611. 3

485584144612. 4

Question Number : 403 Question Id : 48558436153 Question Type : MCQ Option Shuffling : No Is Question Mandatory : No Calculator : None  
Response Time : N.A Think Time : N.A Minimum Instruction Time : 0  
Correct Marks : 5 Wrong Marks : 1

Question Key Details :

Key	Value
Comprehension	MCQ1

ਕਿਸ ਨੂੰ ਤਾਂਤਰਿਕ ਚਿੱਤਰਕਾਰ ਮੰਨਿਆ ਜਾਂਦਾ ਹੈ?

1. ਐਮ ਐਫ ਹੁਸੇਨ
2. ਪਨਰਾਜ ਭਰਤ
3. ਕ੍ਰਿਸ਼ਨਾ ਰੇਡੀ
4. ਜੀ. ਆਰ. ਸੰਤੋਸ਼

Options :

485584144609. 1  
485584144610. 2  
485584144611. 3  
485584144612. 4

Question Number : 403 Question Id : 48558436153 Question Type : MCQ Option Shuffling : No Is Question Mandatory : No Calculator : None  
Response Time : N.A Think Time : N.A Minimum Instruction Time : 0  
Correct Marks : 5 Wrong Marks : 1

Question Key Details :

Key	Value
Comprehension	MCQ1

ஒரு தாந்த்ரீக ஓவியராக கருதப்படுபவர் யார்?

1. எம்.எஃப்.ஹுஸைன்
2. தனராஜ் பாரத்
3. கிருஷ்ணா ரெட்டி
4. ஜி.ஆர்.சந்தோஷ்

Options :

485584144609. 1  
485584144610. 2  
485584144611. 3  
485584144612. 4

Question Number : 403 Question Id : 48558436153 Question Type : MCQ Option Shuffling : No Is Question Mandatory : No Calculator : None  
Response Time : N.A Think Time : N.A Minimum Instruction Time : 0  
Correct Marks : 5 Wrong Marks : 1

Question Key Details :

Key	Value
Comprehension	MCQ1

ఆంధ్రీక చిత్రకారుడిగా ఎవరు పరిగణించబడుతారు?

1. ఎం.ఎఫ్. హుస్సేన్
2. దనరాజ్ భారత్
3. కృష్ణ రెడ్డి
4. జి.ఆర్. సంతోష్

Options :

485584144609. 1  
485584144610. 2  
485584144611. 3  
485584144612. 4

Question Number : 403 Question Id : 48558436153 Question Type : MCQ Option Shuffling : No Is Question Mandatory : No Calculator : None Response Time : N.A Think Time : N.A Minimum Instruction Time : 0

Correct Marks : 5 Wrong Marks : 1

Question Key Details :

Key	Value
Comprehension	MCQ1

مترجم لیل میں نائٹنگ پیٹر کس کر سمجھا جاتا ہے ؟

1. ایم ایف حسین
2. دھن راج بھارت
3. کرشنا ریڈی
4. جی آر سنٹوش

Options :

485584144609. 1  
485584144610. 2  
485584144611. 3  
485584144612. 4

Question Number : 404 Question Id : 48558436154 Question Type : MCQ Option Shuffling : No Is Question Mandatory : No Calculator : None Response Time : N.A Think Time : N.A Minimum Instruction Time : 0

Correct Marks : 5 Wrong Marks : 1

Question Key Details :

Key	Value
Comprehension	MCQ1

Who composed the devotional poetry on Krishna and Radha in Brajblasha?

1. Jaswant Singh
2. Sawant Singh
3. Rana Singh
4. Jai Singh

Options :

485584144613. 1  
485584144614. 2  
485584144615. 3  
485584144616. 4

Question Number : 404 Question Id : 48558436154 Question Type : MCQ Option Shuffling : No Is Question Mandatory : No Calculator : None Response Time : N.A Think Time : N.A Minimum Instruction Time : 0

Correct Marks : 5 Wrong Marks : 1

Question Key Details :

Key	Value
Comprehension	MCQ1

कृष्ण और राधा को समर्पित काव्य संग्रह ब्रजभाषा में किसके द्वारा लिखा गया है?

1. जसवंत सिंह
2. सावंत सिंह
3. राणा सिंह
4. जय सिंह

Options :

485584144613. 1  
485584144614. 2  
485584144615. 3  
485584144616. 4

Question Number : 404 Question Id : 48558436154 Question Type : MCQ Option Shuffling : No Is Question Mandatory : No Calculator : None Response Time : N.A Think Time : N.A Minimum Instruction Time : 0

Correct Marks : 5 Wrong Marks : 1

Question Key Details :

Key	Value
Comprehension	MCQ1

कृष्ण आरु राधाक शुपरात "नागारि दास" ढङ्गिमुलक कविता कोने लिखिछि ?

1. यशवन्त सिंह
2. सारवन्त सिंह
3. राना सिंह
4. जय सिंह

Options :

485584144613. 1  
485584144614. 2  
485584144615. 3  
485584144616. 4

Question Number : 404 Question Id : 48558436154 Question Type : MCQ Option Shuffling : No Is Question Mandatory : No Calculator : None Response Time : N.A Think Time : N.A Minimum Instruction Time : 0

Correct Marks : 5 Wrong Marks : 1

Question Key Details :

Key	Value
Comprehension	MCQ1



ಬ್ರಜ್‌ಭಾಷಾ ನಾಗರೀ ದಾಸ ಏಕೆ ರಾಧಾ ಓ ಕುಸುಮರ ಒಪರ ಛತ್ರಿಯುಲಕ ಕವಿತಾ ರಚನಾ ಕರರಾಁಲಲನ ?

1. ಷಶಾಬಕ್ತ ಸಲಁ
2. ಸಾಒಸುತ್ರ ಸಲಁ
3. ರಾನಾ ಸಲಁ
4. ಜಯ ಸಲಁ

Options :

485584144613. 1
485584144614. 2
485584144615. 3
485584144616. 4

Question Number : 404 Question Id : 48558436154 Question Type : MCQ Option Shuffling : No Is Question Mandatory : No Calculator : None Response Time : N.A Think Time : N.A Minimum Instruction Time : 0

Correct Marks : 5 Wrong Marks : 1

Question Key Details :

Key	Value
Comprehension	MCQ1

ವ್ರಜ ಭಾಷಾಢಾ ಳಪ್ರಾಪಲೆಲಿ ಒನಲೆ "ನಗರೀ ದಾಸ" ತರೀತಲೆ ಪ್ರಖ್ಯಾತ ಸಾಧಾ - ಓಷ್ಯಾನಲಿ ಳಕಲಿತ ಕವಲಿತಾ ಓಒಲಲೆ ಸುಲಿ ಁಲೆ ?

1. ಜಶವಂತ ಸಲಁ
2. ಸಾವಂತ ಸಲಁ
3. ಸಾಒತ್ರಾ ಸಲಁ
4. ಜಯ ಸಲಁ

Options :

485584144613. 1
485584144614. 2
485584144615. 3
485584144616. 4

Question Number : 404 Question Id : 48558436154 Question Type : MCQ Option Shuffling : No Is Question Mandatory : No Calculator : None Response Time : N.A Think Time : N.A Minimum Instruction Time : 0

Correct Marks : 5 Wrong Marks : 1

Question Key Details :

Key	Value
Comprehension	MCQ1

ಕುಷ್ಯು ಢು ತು ರಾಧೆಯ ಢಲೆಲೆ ಬಲಿಷ್ಠ ಭಾಷಾ "ನಗರೀ ದಾಸ" ನಲಿ, ಛಕ್ರಲಿ ಕಾವ್ಯಲವನುು ಸಂಯಲೀಲಜಲಿಸಲದಲವರು ಯಾರು?

1. ಜಸುಂತ ಸಲಁ
2. ಸರವಂತ ಸಲಁ
3. ರಾಁತ್ರಾ ಸಲಁ
4. ಜಲಿಸಲಁ

Options :

485584144613. 1
485584144614. 2
485584144615. 3

485584144616.4

Question Number : 404 Question Id : 48558436154 Question Type : MCQ Option Shuffling : No Is Question Mandatory : No Calculator : None  
Response Time : N.A Think Time : N.A Minimum Instruction Time : 0  
Correct Marks : 5 Wrong Marks : 1

Question Key Details :

Key	Value
Comprehension	MCQ1

കൃഷ്ണനെയും രാധയെയും കുറിച്ച് ഭാജ് ഭാഷയിലുള്ള ഭക്തി കവിതയായ "നഗരി  
ദാസ്" രചിച്ചതാര് ?

1. ജസ് വന്ത് സിംഗ്
2. സാവന്ത് സിംഗ്
3. നാണ സിംഗ്
4. ജയ് സിംഗ്

Options :

485584144613. 1  
485584144614. 2  
485584144615. 3  
485584144616. 4

Question Number : 404 Question Id : 48558436154 Question Type : MCQ Option Shuffling : No Is Question Mandatory : No Calculator : None  
Response Time : N.A Think Time : N.A Minimum Instruction Time : 0  
Correct Marks : 5 Wrong Marks : 1

Question Key Details :

Key	Value
Comprehension	MCQ1

ब्रिजभाषेतील "नागरी दास", हे राधा व कृष्णा संबंधीचे भक्ती काव्य कोणी रचले?

1. जसवंत सिंग
2. सावंत सिंग
3. राणा सिंग
4. जय सिंग

Options :

485584144613. 1  
485584144614. 2  
485584144615. 3  
485584144616. 4

Question Number : 404 Question Id : 48558436154 Question Type : MCQ Option Shuffling : No Is Question Mandatory : No Calculator : None  
Response Time : N.A Think Time : N.A Minimum Instruction Time : 0  
Correct Marks : 5 Wrong Marks : 1

Question Key Details :

Key	Value
Comprehension	MCQ1

କୃଷି ପଦ୍ମ ରାଧିକ ବିଷୟରେ ପ୍ରକାରଗତର ବିଏ ଭଳି କବିତା ରଚନା କରିଥିଲେ ?

1. ରବୀନ୍ଦ୍ର ସିଂହ
2. ବାବୁ ସିଂହ
3. ରାମ ସିଂହ
4. ରାମ ସିଂହ

**Options :**

485584144613. 1
485584144614. 2
485584144615. 3
485584144616. 4

**Question Number : 404 Question Id : 48558436154 Question Type : MCQ Option Shuffling : No Is Question Mandatory : No Calculator : None Response Time : N.A Think Time : N.A Minimum Instruction Time : 0**

**Correct Marks : 5 Wrong Marks : 1**

**Question Key Details :**

Key	Value
Comprehension	MCQ1

ବିଘ୍ନ ଅਤੇ ତାପା ଓ ଆପାରିତ ମତପା ବାଢ଼ି, ନିମନ୍ତୁ " ନାଗାଢ଼ି ଚାମ " ନାଲ ନାଟିଆ ନାଂଚା ପି, ଚି ସ୍ଥିନାମା ଦିଂଚ ଚସନା ବିମନେ ବୀଢ଼ି?

1. ନମରୂତ ମିଂଧ
2. ନାଟିତ ମିଂଧ
3. ନାଟା ମିଂଧ
4. ନି ମିଂଧ

**Options :**

485584144613. 1
485584144614. 2
485584144615. 3
485584144616. 4

**Question Number : 404 Question Id : 48558436154 Question Type : MCQ Option Shuffling : No Is Question Mandatory : No Calculator : None Response Time : N.A Think Time : N.A Minimum Instruction Time : 0**

**Correct Marks : 5 Wrong Marks : 1**

**Question Key Details :**

Key	Value
Comprehension	MCQ1

"ନକାଢ଼ି ତାଣ" ଶ୍ଵାୟ ଚିରୁଷ୍ଠିନା ମହ୍ଵୟ ରାତେୟତାନ ପକ୍ଠି ଚଂଘିତତ୍ତେ ପ୍ରଞ୍ଜପାଞ୍ଚୟିଲ୍ ତୋକୃତ୍ତୁ ଇଚେତ୍ତବର୍ ଧାଢ଼ି?

1. ଞ୍ଵୟନ୍ତ ଚିଂ
2. ଶାଵନ୍ତ ଚିଂକ
3. ରାଞ୍ଚା ଚିଂ
4. ଞ୍ଵୟ ଚିଂ

**Options :**

485584144613. 1

485584144614.2  
485584144615.3  
485584144616.4

Question Number : 404 Question Id : 48558436154 Question Type : MCQ Option Shuffling : No Is Question Mandatory : No Calculator : None  
Response Time : N.A Think Time : N.A Minimum Instruction Time : 0

Correct Marks : 5 Wrong Marks : 1

Question Key Details :

Key	Value
Comprehension	MCQ1

బ్రజ్ భాష "నాగరిదాస్" నందలి రాధ కృష్ణుల భక్తి పద్యాలను ఎవరు రాసారు?

1. జస్వంత్ సింగ్
2. సావంత్ సింగ్
3. రానా సింగ్
4. జై సింగ్

Options :

485584144613.1  
485584144614.2  
485584144615.3  
485584144616.4

Question Number : 404 Question Id : 48558436154 Question Type : MCQ Option Shuffling : No Is Question Mandatory : No Calculator : None  
Response Time : N.A Think Time : N.A Minimum Instruction Time : 0

Correct Marks : 5 Wrong Marks : 1

Question Key Details :

Key	Value
Comprehension	MCQ1

برج بھانسا میں کرشنا اور رادھا پر بھول کس نے لکھی جو "نگری داس" سے مشہور ہے ؟

1. جسونت سنگھ
2. ساونت سنگھ
3. راناسنگھ
4. جے سنگھ

Options :

485584144613.1  
485584144614.2  
485584144615.3  
485584144616.4

Question Number : 405 Question Id : 48558436155 Question Type : MCQ Option Shuffling : No Is Question Mandatory : No Calculator : None  
Response Time : N.A Think Time : N.A Minimum Instruction Time : 0

Correct Marks : 5 Wrong Marks : 1

Question Key Details :

Key	Value
Comprehension	MCQ1

Which painting is based on the episode of "Bhagvata Purana" from Pahari School?

1. Krishna and Rama
2. Nand and Yashoda
3. Nand, Yashoda and Krishna
4. Rama and Laxmana following Sage Vishvamitra to the forest

Options :

485584144617. 1  
485584144618. 2  
485584144619. 3  
485584144620. 4

Question Number : 405 Question Id : 48558436155 Question Type : MCQ Option Shuffling : No Is Question Mandatory : No Calculator : None Response Time : N.A Think Time : N.A Minimum Instruction Time : 0

Correct Marks : 5 Wrong Marks : 1

Question Key Details :

Key	Value
Comprehension	MCQ1

"भागवत पुराण" पर आधारित पहाड़ी चित्रशैली में बना कौन सा चित्र है?

1. कृष्ण और राम
2. नंद और यशोदा
3. नंद, यशोदा और कृष्ण
4. राम और लक्ष्मण ऋषि विश्वामित्र के साथ जंगल (वन) की ओर जा रहे हैं

Options :

485584144617. 1  
485584144618. 2  
485584144619. 3  
485584144620. 4

Question Number : 405 Question Id : 48558436155 Question Type : MCQ Option Shuffling : No Is Question Mandatory : No Calculator : None Response Time : N.A Think Time : N.A Minimum Instruction Time : 0

Correct Marks : 5 Wrong Marks : 1

Question Key Details :

Key	Value
Comprehension	MCQ1

ভাৰৱ কোনখন চিত্ৰশিল্প পাহাৰী শৈলীৰ ভাগৱত পুৰাণৰ ওপৰত ভিত্তি কৰি কৰা হৈছে ?

1. কৃষ্ণ আৰু ৰাম
2. নন্দ আৰু যশোদা
3. নন্দ, যশোদা, আৰু কৃষ্ণ
4. মুনি বিশ্বমিত্ৰক অৰণ্যলৈ অনুসৰণ কৰা ৰাম আৰু লক্ষণ

Options :

485584144617. 1  
485584144618. 2  
485584144619. 3  
485584144620. 4

Question Number : 405 Question Id : 48558436155 Question Type : MCQ Option Shuffling : No Is Question Mandatory : No Calculator : None Response Time : N.A Think Time : N.A Minimum Instruction Time : 0

Correct Marks : 5 Wrong Marks : 1

Question Key Details :

Key	Value
Comprehension	MCQ1

'पाहारी स्कूल' (Pahari School) থেকে কোন চিত্রটি ভাগবত পুরাণকে কেন্দ্র করে অঙ্কিত ছিল?

1. কৃষ্ণ এবং রাম
2. নন্দ ও যশোদা
3. নন্দ, যশোদা এবং কৃষ্ণ
4. রাম এবং লক্ষণ বিশ্বামিত্র মুনির অনুসরণে বনে চলেছে

Options :

485584144617. 1

485584144618. 2

485584144619. 3

485584144620. 4

Question Number : 405 Question Id : 48558436155 Question Type : MCQ Option Shuffling : No Is Question Mandatory : No Calculator : None Response Time : N.A Think Time : N.A Minimum Instruction Time : 0

Correct Marks : 5 Wrong Marks : 1

Question Key Details :

Key	Value
Comprehension	MCQ1

पहाडी स्कूलनु कयुं चित्रन्तिर भगवत पुराणना अध्याय पर आधारित छ ?

1. कृष्ण अने राम
2. नंद अने यशोदा
3. नंद, यशोदा अने कृष्ण
4. राम अने लक्ष्मण ऋषि विश्वामित्रनी पाछण पाछण जंगलमा गया

Options :

485584144617. 1

485584144618. 2

485584144619. 3

485584144620. 4

Question Number : 405 Question Id : 48558436155 Question Type : MCQ Option Shuffling : No Is Question Mandatory : No Calculator : None Response Time : N.A Think Time : N.A Minimum Instruction Time : 0

Correct Marks : 5 Wrong Marks : 1

Question Key Details :

Key	Value
Comprehension	MCQ1

ಪಹಾರಿ ಶಾಲೆಯ ಭಾಗ್ಯತ ಪ್ರಕಾರದ ಆಧ್ಯಾಯದ ಮೇಲೆ ಆಧರಿಸಿರುವ ಚಿತ್ರಕಲೆ ಯಾವುದು?

1. ಕೃಷ್ಣ ಮತ್ತು ರಾಮ
2. ನಂದ ಮತ್ತು ಯಶೋದಾ
3. ನಂದ, ಯಶೋದಾ ಮತ್ತು ಕೃಷ್ಣ
4. ರಾಮ ಮತ್ತು ಲಕ್ಷ್ಮಣ ಕಾಡಿನಲ್ಲಿ ವಿಶ್ವಾಮಿತ್ರ ಮುನಿಯನ್ನು ಹಿಂಬಾಲಿಸುವುದು

Options :

485584144617. 1
485584144618. 2
485584144619. 3
485584144620. 4

Question Number : 405 Question Id : 48558436155 Question Type : MCQ Option Shuffling : No Is Question Mandatory : No Calculator : None Response Time : N.A Think Time : N.A Minimum Instruction Time : 0

Correct Marks : 5 Wrong Marks : 1

Question Key Details :

Key	Value
Comprehension	MCQ1

ಛಾಯಾಚಿತ್ರವು ಛಾಯಾಚಿತ್ರದ ಅಡಿಪಾಯವನ್ನು ಹೇಗೆ ನಿರ್ಮಿಸುತ್ತದೆ ಎಂಬುದನ್ನು ಕೆಳಕಂಡವುಗಳಲ್ಲಿ ಒಂದನ್ನು ಆರಿಸಿ.

1. ಕ್ಷಣಿಕವೂ ಇಲ್ಲವೂ
2. ನಂದನು ಯಶೋದೆಯು
3. ನಂದನು, ಯಶೋದೆಯು, ಕ್ಷಣಿಕವೂ
4. ಛಾಯಾಚಿತ್ರದ ವಿಷಯವನ್ನು ವಿವರಿಸುವುದು ಮತ್ತು ಅದನ್ನು ಉಪಯೋಗಿಸುವುದು

Options :

485584144617. 1
485584144618. 2
485584144619. 3
485584144620. 4

Question Number : 405 Question Id : 48558436155 Question Type : MCQ Option Shuffling : No Is Question Mandatory : No Calculator : None Response Time : N.A Think Time : N.A Minimum Instruction Time : 0

Correct Marks : 5 Wrong Marks : 1

Question Key Details :

Key	Value
Comprehension	MCQ1

ಪಹಾರಿ ಶಾಲೆಯ ಕೋನಿನಲ್ಲಿರುವ ಚಿತ್ರ ಭಾಗವತ ಪುರಾಣದಲ್ಲಿ ಬರುವಂತೆ ಆಧಾರಿತವಾಗಿದೆ?

1. ಕೃಷ್ಣ ಮತ್ತು ರಾಮ
2. ನಂದ ಮತ್ತು ಯಶೋದಾ
3. ನಂದ, ಯಶೋದಾ ಮತ್ತು ಕೃಷ್ಣ
4. ಜಂಗಲಾತ ಋಷಿ ವಿಶ್ವಾಮಿತ್ರನು ಮಗನಾದ ರಾಮ ಮತ್ತು ಲಕ್ಷ್ಮಣ

Options :

485584144617. 1
485584144618. 2
485584144619. 3

485584144620. 4

Question Number : 405 Question Id : 48558436155 Question Type : MCQ Option Shuffling : No Is Question Mandatory : No Calculator : None  
Response Time : N.A Think Time : N.A Minimum Instruction Time : 0

Correct Marks : 5 Wrong Marks : 1

Question Key Details :

Key	Value
Comprehension	MCQ1

ਕੇਹੜੇ ਚਿੱਤਰੇ ਗਾਠਾ ਕ੍ਰਮ ਚਾਰਚਰ ਕ੍ਰਮਾਥ ਖਿੱਚੋਰ ਚਰਚੇ ਥਾਥਾਥਿ ?

1. ਕ੍ਰਮ ਖਰਾ ਚਾਰ
2. ਚਰ ਖਰਾ ਚਰਚਾਥ
3. ਚਰ, ਚਰਚਾਥ ਖਰਾ ਕ੍ਰਮ
4. ਚਾਰ ਖਰਾ ਚਰਚਾਥ ਚਿੱਚਾਥਿਠ ਚਾਰਚ ਚਾਰਚਾਰ ਚਰਚੇ ਚਰਚਾਥ ਚਾਰਚਾਥ

Options :

485584144617. 1  
485584144618. 2  
485584144619. 3  
485584144620. 4

Question Number : 405 Question Id : 48558436155 Question Type : MCQ Option Shuffling : No Is Question Mandatory : No Calculator : None  
Response Time : N.A Think Time : N.A Minimum Instruction Time : 0

Correct Marks : 5 Wrong Marks : 1

Question Key Details :

Key	Value
Comprehension	MCQ1

ਪਹਾੜੀ ਸਕੂਲ ਵਿੱਚੋਂ ਭਾਗਵਤ ਪੁਰਾਨ ਪ੍ਰਸੰਗ ਤੇ ਆਧਾਰਿਤ ਚਿੱਤਰ ਕਿਹੜੀ ਹੈ?

1. ਕ੍ਰਿਸ਼ਨਾ ਅਤੇ ਰਾਮ
2. ਨੰਦ ਅਤੇ ਯਸ਼ੋਦਾ
3. ਨੰਦ, ਯਸ਼ੋਦਾ ਅਤੇ ਕ੍ਰਿਸ਼ਨ
4. ਰਾਮ ਅਤੇ ਲਕਸ਼ਮਣ ਜੰਗਲ ਵਿੱਚ ਸੰਤ ਵਿਸ਼ਵਾਮਿੱਤਰ ਦੇ ਅਨੁਸਾਰ ਕਰਦੇ ਹੋਏ

Options :

485584144617. 1  
485584144618. 2  
485584144619. 3  
485584144620. 4

Question Number : 405 Question Id : 48558436155 Question Type : MCQ Option Shuffling : No Is Question Mandatory : No Calculator : None  
Response Time : N.A Think Time : N.A Minimum Instruction Time : 0

Correct Marks : 5 Wrong Marks : 1

Question Key Details :

Key	Value
Comprehension	MCQ1



பஹரி பள்ளியிலிருந்து பாகவத புராண அத்தியாயத்தை அடிப்படையாகக் கொண்ட ஓவியம் எது?

1. கிருஷ்ணா மற்றும் ராமா
2. நந்தா மற்றும் யசோதா
3. நந்தா, யசோதா மற்றும் கிருஷ்ணா
4. ராமா மற்றும் லக்ஷ்மணர், விஸ்வாமித்திர முனிவரைப் பின்தொடர்ந்து காட்டிற்குச் சென்றார்.

Options :

485584144617. 1  
485584144618. 2  
485584144619. 3  
485584144620. 4

Question Number : 405 Question Id : 48558436155 Question Type : MCQ Option Shuffling : No Is Question Mandatory : No Calculator : None Response Time : N.A Think Time : N.A Minimum Instruction Time : 0

Correct Marks : 5 Wrong Marks : 1

Question Key Details :

Key	Value
Comprehension	MCQ1

सप्तरी न्यूज़ लीनि भागवत पुराण वसिष्ठ अध्याय विरचित चित्रलेखन कौन है?

1. कृष्ण मरियु राम
2. नंद मरियु यशोद
3. नंद, यशोद मरियु कृष्ण
4. राम लक्ष्मण विष्णुमित्र मुनिजी अहिल्या वेशुद

Options :

485584144617. 1  
485584144618. 2  
485584144619. 3  
485584144620. 4

Question Number : 405 Question Id : 48558436155 Question Type : MCQ Option Shuffling : No Is Question Mandatory : No Calculator : None Response Time : N.A Think Time : N.A Minimum Instruction Time : 0

Correct Marks : 5 Wrong Marks : 1

Question Key Details :

Key	Value
Comprehension	MCQ1

بھگوت پوران (Bhagvata Purana) کے واقعات پر پہلی اسکول سے کون سی پیشکش نہیں ہے ؟

1. کرشنا اور راما
2. نند اور یسودھا
3. نند ، یسودا اور کرشن
4. رام اور لکشمین بابا و شوامترا کا جنگ کی طرف تعلق کر رہے ہیں

Options :

485584144617. 1  
485584144618. 2

485584144619. 3  
485584144620. 4

Question Number : 406 Question Id : 48558436156 Question Type : MCQ Option Shuffling : No Is Question Mandatory : No Calculator : None  
Response Time : N.A Think Time : N.A Minimum Instruction Time : 0

Correct Marks : 5 Wrong Marks : 1

Question Key Details :

Key	Value
Comprehension	MCQ1

'Nainsukh' the artist of miniature painting belongs to which Sub-School of Pahari style?

1. Guler
2. Kangara
3. Basohli
4. Kullu

Options :

485584144621. 1  
485584144622. 2  
485584144623. 3  
485584144624. 4

Question Number : 406 Question Id : 48558436156 Question Type : MCQ Option Shuffling : No Is Question Mandatory : No Calculator : None  
Response Time : N.A Think Time : N.A Minimum Instruction Time : 0

Correct Marks : 5 Wrong Marks : 1

Question Key Details :

Key	Value
Comprehension	MCQ1

लघु चित्रकारी के कलाकार "नैनसुख" पहाड़ी शैली की किस उप-शैली से सम्बंधित हैं?

1. गुलेर
2. कांगड़ा
3. बसोहली
4. कुल्लू

Options :

485584144621. 1  
485584144622. 2  
485584144623. 3  
485584144624. 4

Question Number : 406 Question Id : 48558436156 Question Type : MCQ Option Shuffling : No Is Question Mandatory : No Calculator : None  
Response Time : N.A Think Time : N.A Minimum Instruction Time : 0

Correct Marks : 5 Wrong Marks : 1

Question Key Details :

Key	Value
Comprehension	MCQ1

'নয়নসুখ' মিনিএচিউৰ চিত্ৰশিল্পৰ শিল্পী কোন, যাক পাহাৰী উপশৈলীৰ পৰা লোৱা হৈছে ?

1. গোলান
2. কাংগ্ৰা
3. বচহলি
4. কুয়ু

**Options :**

485584144621. 1
485584144622. 2
485584144623. 3
485584144624. 4

**Question Number : 406 Question Id : 48558436156 Question Type : MCQ Option Shuffling : No Is Question Mandatory : No Calculator : None Response Time : N.A Think Time : N.A Minimum Instruction Time : 0**

**Correct Marks : 5 Wrong Marks : 1**

**Question Key Details :**

Key	Value
Comprehension	MCQ1

কোন সাৰ স্কুলেৰ পাহাৰী স্টাইলে চিত্ৰশিল্পী 'নয়নসুখ' চিত্ৰশিল্পটিৰ স্ক্ৰসংক্ৰমণ কৰেছিলে ?

1. গুলান
2. কাংগ্ৰা
3. বসোলি
4. কুয়ু

**Options :**

485584144621. 1
485584144622. 2
485584144623. 3
485584144624. 4

**Question Number : 406 Question Id : 48558436156 Question Type : MCQ Option Shuffling : No Is Question Mandatory : No Calculator : None Response Time : N.A Think Time : N.A Minimum Instruction Time : 0**

**Correct Marks : 5 Wrong Marks : 1**

**Question Key Details :**

Key	Value
Comprehension	MCQ1

ৰঘুযিৱ পেণ্টিং নৈনসুখনা ক্বাডাৱে কৰে পছাৰী পেটা স্কুল শীৰী সাধে সংবন্ধ দয়াবে छ ?

1. গুলান
2. কাংগ্ৰা
3. পসীকৰী
4. কুয়ু

**Options :**

485584144621. 1
485584144622. 2
485584144623. 3
485584144624. 4

Question Number : 406 Question Id : 48558436156 Question Type : MCQ Option Shuffling : No Is Question Mandatory : No Calculator : None Response Time : N.A Think Time : N.A Minimum Instruction Time : 0

Correct Marks : 5 Wrong Marks : 1

Question Key Details :

Key	Value
Comprehension	MCQ1

സ്കൗട്ട്സ് ചേർക്കുക/കുറയ്ക്കുകയുടെ കലാവിദ്യാലയ പരീക്ഷാ ചോദ്യം ഏതാണ്?

1. ഗുലാർ
2. കാമ്പ്
3. ലിംഗ്വോസ്റ്റ്
4. ക്ലബ്ബ്

Options :

- 485584144621. 1
- 485584144622. 2
- 485584144623. 3
- 485584144624. 4

Question Number : 406 Question Id : 48558436156 Question Type : MCQ Option Shuffling : No Is Question Mandatory : No Calculator : None Response Time : N.A Think Time : N.A Minimum Instruction Time : 0

Correct Marks : 5 Wrong Marks : 1

Question Key Details :

Key	Value
Comprehension	MCQ1

നവീനസംഗീതം എന്ന മിന്നിയച്ചെരി പെരിയന്റിന്റെ തയ്യാറാക്കിയ കലാകാരൻ, പെരിയന്റി സമ്പ്രദായത്തിന്റെ ഏത് ഉപസമ്പ്രദായത്തിൽ ഉൾപ്പെടുന്നു :

1. ഗുലാർ
2. കാമ്പ്
3. ലിംഗ്വോസ്റ്റ്
4. ക്ലബ്ബ്

Options :

- 485584144621. 1
- 485584144622. 2
- 485584144623. 3
- 485584144624. 4

Question Number : 406 Question Id : 48558436156 Question Type : MCQ Option Shuffling : No Is Question Mandatory : No Calculator : None Response Time : N.A Think Time : N.A Minimum Instruction Time : 0

Correct Marks : 5 Wrong Marks : 1

Question Key Details :

Key	Value
Comprehension	MCQ1

'नयनसूख' हे पहाडी उप.शाळा शैलीचे चित्र कोणत्या कलाकाराचे आहे?

1. गुलार
2. फोगडा
3. बोसोहली
4. फुलू

**Options :**

485584144621. 1  
485584144622. 2  
485584144623. 3  
485584144624. 4

**Question Number : 406 Question Id : 48558436156 Question Type : MCQ Option Shuffling : No Is Question Mandatory : No Calculator : None Response Time : N.A Think Time : N.A Minimum Instruction Time : 0**

**Correct Marks : 5 Wrong Marks : 1**

**Question Key Details :**

Key	Value
Comprehension	MCQ1

निम्नलिखित किंतु "सद्यतपुत्र" केलीं कावलीं थारल वर वुल जपलल वल्लु ?

1. वुलल
2. कलल
3. वलल
4. वुल

**Options :**

485584144621. 1  
485584144622. 2  
485584144623. 3  
485584144624. 4

**Question Number : 406 Question Id : 48558436156 Question Type : MCQ Option Shuffling : No Is Question Mandatory : No Calculator : None Response Time : N.A Think Time : N.A Minimum Instruction Time : 0**

**Correct Marks : 5 Wrong Marks : 1**

**Question Key Details :**

Key	Value
Comprehension	MCQ1

लखु सिंघत " नैनसुंभ " सा बलाबात परात्री मेली से बिम मध मबुल ताल मधीपत हे?

1. तुलार
2. वंगडा
3. घेमेहली
4. वुल

**Options :**

485584144621. 1  
485584144622. 2  
485584144623. 3

485584144624. 4

Question Number : 406 Question Id : 48558436156 Question Type : MCQ Option Shuffling : No Is Question Mandatory : No Calculator : None  
Response Time : N.A Think Time : N.A Minimum Instruction Time : 0  
Correct Marks : 5 Wrong Marks : 1

Question Key Details :

Key	Value
Comprehension	MCQ1

"நென்சுங்" எனும் நுண்கலை ஓவியக் கலைஞர், பஹரி பாணியின் எந்த துணைப்பள்ளிச் சார்ந்தவர்?

1. குலார்
2. கான்ங்கிரா
3. பசோலி
4. குலு

Options :

485584144621. 1  
485584144622. 2  
485584144623. 3  
485584144624. 4

Question Number : 406 Question Id : 48558436156 Question Type : MCQ Option Shuffling : No Is Question Mandatory : No Calculator : None  
Response Time : N.A Think Time : N.A Minimum Instruction Time : 0  
Correct Marks : 5 Wrong Marks : 1

Question Key Details :

Key	Value
Comprehension	MCQ1

சூக்தி விதிகளானவாசிக் சாண்டிச விதிகார்டு "வெஸ்ட்" வஹர் சூலிக் சாண்டிச வி அஹ வாரசாலகூ  
சாண்டிசவாடூ?

1. கூலர்
2. காரர்
3. பசோலி
4. கூலு

Options :

485584144621. 1  
485584144622. 2  
485584144623. 3  
485584144624. 4

Question Number : 406 Question Id : 48558436156 Question Type : MCQ Option Shuffling : No Is Question Mandatory : No Calculator : None  
Response Time : N.A Think Time : N.A Minimum Instruction Time : 0  
Correct Marks : 5 Wrong Marks : 1

Question Key Details :

Key	Value
Comprehension	MCQ1

چٹاری انداز کے کس ذیلی اسکول سے ہنی اجر پیشگ کے فن کار تیر سکے کا تعلق ہے ؟

1. ٹھنر
2. کنگڑا
3. بولی
4. غور

**Options :**

485584144621. 1
485584144622. 2
485584144623. 3
485584144624. 4

**Question Number : 407 Question Id : 48558436157 Question Type : MCQ Option Shuffling : No Is Question Mandatory : No Calculator : None Response Time : N.A Think Time : N.A Minimum Instruction Time : 0**

**Correct Marks : 5 Wrong Marks : 1**

**Question Key Details :**

Key	Value
Comprehension	MCQ1

"Triumph of Labour" sculpture is made of which material.

1. Steel
2. Cement
3. Stone
4. Bronze

**Options :**

485584144625. 1
485584144626. 2
485584144627. 3
485584144628. 4

**Question Number : 407 Question Id : 48558436157 Question Type : MCQ Option Shuffling : No Is Question Mandatory : No Calculator : None Response Time : N.A Think Time : N.A Minimum Instruction Time : 0**

**Correct Marks : 5 Wrong Marks : 1**

**Question Key Details :**

Key	Value
Comprehension	MCQ1

"श्रम की विजय" मूर्तिकला किस सामग्री से बनी है:

1. स्टील (इस्पात)
2. सीमेंट
3. पत्थर
4. काँसा

**Options :**

485584144625. 1
485584144626. 2
485584144627. 3
485584144628. 4

Question Number : 407 Question Id : 48558436157 Question Type : MCQ Option Shuffling : No Is Question Mandatory : No Calculator : None  
Response Time : N.A Think Time : N.A Minimum Instruction Time : 0

Correct Marks : 5 Wrong Marks : 1

Question Key Details :

Key	Value
Comprehension	MCQ1

'ট্রিসফ অব লেবর' স্থাপত্য কিহেবে বনাইছিল ?

1. ষ্টিল
2. চিমেন্ট
3. পাথর
4. ব্রঞ্জ

Options :

485584144625. 1  
485584144626. 2  
485584144627. 3  
485584144628. 4

Question Number : 407 Question Id : 48558436157 Question Type : MCQ Option Shuffling : No Is Question Mandatory : No Calculator : None  
Response Time : N.A Think Time : N.A Minimum Instruction Time : 0

Correct Marks : 5 Wrong Marks : 1

Question Key Details :

Key	Value
Comprehension	MCQ1

'ট্রিয়াফ অব লেবর' ভাস্কর্য / স্থাপত্যটি বানানো হয়েছে

1. স্টীল
2. সিমেন্ট
3. পাথর / স্টোন
4. ব্রঞ্জ

Options :

485584144625. 1  
485584144626. 2  
485584144627. 3  
485584144628. 4

Question Number : 407 Question Id : 48558436157 Question Type : MCQ Option Shuffling : No Is Question Mandatory : No Calculator : None  
Response Time : N.A Think Time : N.A Minimum Instruction Time : 0

Correct Marks : 5 Wrong Marks : 1

Question Key Details :

Key	Value
Comprehension	MCQ1



ಶಿಲ್ಪಕೃತಿ "Triumph of Labour" (ಶ್ರಮನಿ ಜಿತ) \_\_\_\_\_ ನೆಲೆ ಬನಲಿ ಟಿ.

1. ಸಿರಲ
2. ಸಿರೊಂಟ
3. ಪಲ್ಯರ
4. ಖೊಂಟ

**Options :**

485584144625. 1
485584144626. 2
485584144627. 3
485584144628. 4

**Question Number : 407 Question Id : 48558436157 Question Type : MCQ Option Shuffling : No Is Question Mandatory : No Calculator : None Response Time : N.A Think Time : N.A Minimum Instruction Time : 0**

**Correct Marks : 5 Wrong Marks : 1**

**Question Key Details :**

Key	Value
Comprehension	MCQ1

ತಿಲ್ಪಕಲೆ 'ಕಾರ್ಮಿಕ ದಿಗ್ವಿಜಯ'ವು ರಚಿಸಿದ್ರು ಇದರಂದ:

1. ಉಕ್ಕು
2. ಸಿರೊಂಟ
3. ಕಲ್ಲು
4. ಕಂಚು

**Options :**

485584144625. 1
485584144626. 2
485584144627. 3
485584144628. 4

**Question Number : 407 Question Id : 48558436157 Question Type : MCQ Option Shuffling : No Is Question Mandatory : No Calculator : None Response Time : N.A Think Time : N.A Minimum Instruction Time : 0**

**Correct Marks : 5 Wrong Marks : 1**

**Question Key Details :**

Key	Value
Comprehension	MCQ1

"ಅಧ್ಯಾಪನಾಶಿಲ್ಪ ವಿಜಯ" ಏಕನ ಶಿಲ್ಪಂ ಏಕನುಕೊಂಢೆ ನರಿಶಯಿಶ್ಚಿತಾಂಢೆ ?

1. ಉಗಿಶಿಲ್ಪ
2. ನರಿಶಯಿಶ್ಚಿ
3. ಕಲ್ಲೆ
4. ವೆಂಕಟಂ

**Options :**

485584144625. 1
485584144626. 2
485584144627. 3
485584144628. 4

Question Number : 407 Question Id : 48558436157 Question Type : MCQ Option Shuffling : No Is Question Mandatory : No Calculator : None  
Response Time : N.A Think Time : N.A Minimum Instruction Time : 0

Correct Marks : 5 Wrong Marks : 1

Question Key Details :

Key	Value
Comprehension	MCQ1

"ट्रायफ ऑफ लेबर" (श्रमाचा विजय) हे शिल्प कशाने बनवले आहे?

1. स्टील
2. सिमेंट
3. दगड
4. कांस्य

Options :

485584144625. 1  
485584144626. 2  
485584144627. 3  
485584144628. 4

Question Number : 407 Question Id : 48558436157 Question Type : MCQ Option Shuffling : No Is Question Mandatory : No Calculator : None  
Response Time : N.A Think Time : N.A Minimum Instruction Time : 0

Correct Marks : 5 Wrong Marks : 1

Question Key Details :

Key	Value
Comprehension	MCQ1

'दुधासु वषट् लोका' गुरूं कर्मसु रियाळि श्वाकळि:

1. विल
2. विगत
3. पयल
4. बस

Options :

485584144625. 1  
485584144626. 2  
485584144627. 3  
485584144628. 4

Question Number : 407 Question Id : 48558436157 Question Type : MCQ Option Shuffling : No Is Question Mandatory : No Calculator : None  
Response Time : N.A Think Time : N.A Minimum Instruction Time : 0

Correct Marks : 5 Wrong Marks : 1

Question Key Details :

Key	Value
Comprehension	MCQ1



Question Number : 407 Question Id : 48558436157 Question Type : MCQ Option Shuffling : No Is Question Mandatory : No Calculator : None Response Time : N.A Think Time : N.A Minimum Instruction Time : 0

Correct Marks : 5 Wrong Marks : 1

Question Key Details :

Key	Value
Comprehension	MCQ1

مصنف "مزاوڑوں کی فتح" کس سے بنا ہوا ہے ؟

1. اسٹیل
2. سیمٹھ
3. بیٹر
4. کانسہ

Options :

485584144625. 1
485584144626. 2
485584144627. 3
485584144628. 4

Question Number : 408 Question Id : 48558436158 Question Type : MCQ Option Shuffling : No Is Question Mandatory : No Calculator : None Response Time : N.A Think Time : N.A Minimum Instruction Time : 0

Correct Marks : 5 Wrong Marks : 1

Question Key Details :

Key	Value
Comprehension	MCQ1

Who is the artist of Pahari Miniature painting "Krishna with Gopies?"

1. Miskin
2. Manaku
3. Mir Sayed Ali
4. Nuruddin

Options :

485584144629. 1
485584144630. 2
485584144631. 3
485584144632. 4

Question Number : 408 Question Id : 48558436158 Question Type : MCQ Option Shuffling : No Is Question Mandatory : No Calculator : None Response Time : N.A Think Time : N.A Minimum Instruction Time : 0

Correct Marks : 5 Wrong Marks : 1

Question Key Details :

Key	Value
Comprehension	MCQ1

'कृष्ण गोपियों के साथ' पहाड़ी लघु चित्र के कलाकार कौन हैं?

1. मिस्किन
2. मनकू
3. मीर सेयद अली
4. नूरुद्दीन

**Options :**

485584144629. 1  
485584144630. 2  
485584144631. 3  
485584144632. 4

**Question Number : 408 Question Id : 48558436158 Question Type : MCQ Option Shuffling : No Is Question Mandatory : No Calculator : None Response Time : N.A Think Time : N.A Minimum Instruction Time : 0**

**Correct Marks : 5 Wrong Marks : 1**

**Question Key Details :**

Key	Value
Comprehension	MCQ1

"গোপীৰ লগত কৃষ্ণ" খ্যাত পাহাৰী মিনি.এচিউৰ চিত্ৰশিল্পৰ শিল্পী কোন ?

1. মিস্কিন
2. মানকু
3. মির সৈয়দ আলী
4. নুৰুদ্দিন

**Options :**

485584144629. 1  
485584144630. 2  
485584144631. 3  
485584144632. 4

**Question Number : 408 Question Id : 48558436158 Question Type : MCQ Option Shuffling : No Is Question Mandatory : No Calculator : None Response Time : N.A Think Time : N.A Minimum Instruction Time : 0**

**Correct Marks : 5 Wrong Marks : 1**

**Question Key Details :**

Key	Value
Comprehension	MCQ1

পাহাড়ী মিনি.এচিউৰ ( কৃষ্ণসংকরণ) পেন্টিংটির চিত্ৰকৰ কে ?

1. মিস্কিন
2. মানকু
3. মীর সৈয়দ আলী
4. নুৰুদ্দিন

**Options :**

485584144629. 1  
485584144630. 2  
485584144631. 3  
485584144632. 4

Question Number : 408 Question Id : 48558436158 Question Type : MCQ Option Shuffling : No Is Question Mandatory : No Calculator : None Response Time : N.A Think Time : N.A Minimum Instruction Time : 0

Correct Marks : 5 Wrong Marks : 1

Question Key Details :

Key	Value
Comprehension	MCQ1

પહાડી વધુચિત્ર પેઇન્ટિંગ "Krishna with Gopies" (ગોપીઓ સાથે કૃષ્ણ) ક્યા કલાકાર દ્વારા બનાવવામાં આવ્યું છે ?

1. મિસ્કીન
2. મનાકુ
3. મિર સેયદ અલી
4. ગુરોદિન

Options :

485584144629. 1

485584144630. 2

485584144631. 3

485584144632. 4

Question Number : 408 Question Id : 48558436158 Question Type : MCQ Option Shuffling : No Is Question Mandatory : No Calculator : None Response Time : N.A Think Time : N.A Minimum Instruction Time : 0

Correct Marks : 5 Wrong Marks : 1

Question Key Details :

Key	Value
Comprehension	MCQ1

પંજાબી લોકગીતોના લેખકોમાં "ગુરુપીયત્વ જીવન" ના લેખક કોણ છે ?

1. મિસ્કીન
2. મનાકુ
3. મિર સેયદ અલી
4. ગુરુદિન

Options :

485584144629. 1

485584144630. 2

485584144631. 3

485584144632. 4

Question Number : 408 Question Id : 48558436158 Question Type : MCQ Option Shuffling : No Is Question Mandatory : No Calculator : None Response Time : N.A Think Time : N.A Minimum Instruction Time : 0

Correct Marks : 5 Wrong Marks : 1

Question Key Details :

Key	Value
Comprehension	MCQ1

"കൃഷ്ണനും ഗോപികമാരും" എന്ന പഹാരി മിനിയേച്ചർ പെയിന്റിങ്ങ് തയ്യാറാക്കിയ കലാകാരൻ ആര് ?

1. മിസ്റ്റിൻ
2. മനാക്യ
3. മിർ സയാദ് അലി
4. നൂറുദ്ദീൻ

**Options :**

- 485584144629. 1
- 485584144630. 2
- 485584144631. 3
- 485584144632. 4

Question Number : 408 Question Id : 48558436158 Question Type : MCQ Option Shuffling : No Is Question Mandatory : No Calculator : None Response Time : N.A Think Time : N.A Minimum Instruction Time : 0

Correct Marks : 5 Wrong Marks : 1

**Question Key Details :**

Key	Value
Comprehension	MCQ1

"कृष्णा वीथ गोपीज" या पहाडी लघु चित्रकलेचे कलाकार कोण आहेत?

1. मिस्किन
2. मनाकू
3. मीर सय्यद अली
4. नुरुद्दीन

**Options :**

- 485584144629. 1
- 485584144630. 2
- 485584144631. 3
- 485584144632. 4

Question Number : 408 Question Id : 48558436158 Question Type : MCQ Option Shuffling : No Is Question Mandatory : No Calculator : None Response Time : N.A Think Time : N.A Minimum Instruction Time : 0

Correct Marks : 5 Wrong Marks : 1

**Question Key Details :**

Key	Value
Comprehension	MCQ1

ପାହାଡ଼ୀ ମିନି-ପେଣ୍ଟିଂ ର ଲଘୁ ଚିତ୍ରକଳା "କୃଷ୍ଣା ଶ୍ୟାମ ଗୋପୀ" ର କଳାକାର କିଏ ?

1. ମିସ୍କିନ
2. ମନାକୂ
3. ମୀର ସାୟଦ ଅଲି
4. ନୁରୁଦ୍ଦିନ

**Options :**

- 485584144629. 1
- 485584144630. 2

485584144631. 3

485584144632. 4

Question Number : 408 Question Id : 48558436158 Question Type : MCQ Option Shuffling : No Is Question Mandatory : No Calculator : None  
Response Time : N.A Think Time : N.A Minimum Instruction Time : 0

Correct Marks : 5 Wrong Marks : 1

Question Key Details :

Key	Value
Comprehension	MCQ1

ਪਹਾੜੀ ਲਭੂ ਚਿੱਤਰ " ਗੋਪੀਆਂ ਨਾਲ ਬਿਸ਼ਨ " ਦਾ ਕਲਾਕਾਰ ਕੌਣ ਹੈ?

1. ਮਿਸਕਿਨ
2. ਮਨਬੁ
3. ਮੀਰ ਸਯਦ ਅਲੀ
4. ਨਰੁਦੀਨ

Options :

485584144629. 1

485584144630. 2

485584144631. 3

485584144632. 4

Question Number : 408 Question Id : 48558436158 Question Type : MCQ Option Shuffling : No Is Question Mandatory : No Calculator : None  
Response Time : N.A Think Time : N.A Minimum Instruction Time : 0

Correct Marks : 5 Wrong Marks : 1

Question Key Details :

Key	Value
Comprehension	MCQ1

"ਕਿਰੁਙੁਣਾ ਵਿੱਚ ਕੋਪੀਲ" ਈਨੁਮ ਪਠਹਰੀ ਨੁਣਕਲੇਲ ਓਵਿਯਤਕਿਨ ਕਲੇਲਕੁਰ ਯਾਰ?

1. ਮਿਲਕਿਨ
2. ਮਾਨਾਕੁ
3. ਮਿਰ ਸੇਯਥ ਅਨਿ
4. ਨੁਰੁਕਿਨ

Options :

485584144629. 1

485584144630. 2

485584144631. 3

485584144632. 4

Question Number : 408 Question Id : 48558436158 Question Type : MCQ Option Shuffling : No Is Question Mandatory : No Calculator : None  
Response Time : N.A Think Time : N.A Minimum Instruction Time : 0

Correct Marks : 5 Wrong Marks : 1

Question Key Details :

Key	Value
Comprehension	MCQ1



గోపికలతో కృష్ణుడు పహారీ లఘు వర్ణ చిత్రాన్ని తయారు చేసిన కళాకారుడు?

1. మిస్సీన్
2. మనకూ
3. మీర్ సయ్యద్ అలీ
4. సురుదీన్

Options :

485584144629. 1  
485584144630. 2  
485584144631. 3  
485584144632. 4

Question Number : 408 Question Id : 48558436158 Question Type : MCQ Option Shuffling : No Is Question Mandatory : No Calculator : None  
Response Time : N.A Think Time : N.A Minimum Instruction Time : 0

Correct Marks : 5 Wrong Marks : 1

Question Key Details :

Key	Value
Comprehension	MCQ1

پہاڑی میں ایجر پیشنگ "Krishna with Gopies" کا فنکار کون ہے ؟

1. مسی
2. منکو
3. میر سید علی
4. نور الدین

Options :

485584144629. 1  
485584144630. 2  
485584144631. 3  
485584144632. 4

Question Number : 409 Question Id : 48558436159 Question Type : MCQ Option Shuffling : No Is Question Mandatory : No Calculator : None  
Response Time : N.A Think Time : N.A Minimum Instruction Time : 0

Correct Marks : 5 Wrong Marks : 1

Question Key Details :

Key	Value
Comprehension	MCQ1

"Bihari Satsai" was authored by whom?

1. Bihari Das
2. Keshaw Das
3. Bihari Lal
4. Jayadeva

Options :

485584144633. 1  
485584144634. 2  
485584144635. 3  
485584144636. 4

Question Number : 409 Question Id : 48558436159 Question Type : MCQ Option Shuffling : No Is Question Mandatory : No Calculator : None  
Response Time : N.A Think Time : N.A Minimum Instruction Time : 0

Correct Marks : 5 Wrong Marks : 1

Question Key Details :

Key	Value
Comprehension	MCQ1

"बिहरी सतसई" किसके द्वारा लिखी गई थी:

1. बिहारी दास
2. केशव दास
3. बिहारी लाल
4. जयदेव

Options :

485584144633. 1  
485584144634. 2  
485584144635. 3  
485584144636. 4

Question Number : 409 Question Id : 48558436159 Question Type : MCQ Option Shuffling : No Is Question Mandatory : No Calculator : None  
Response Time : N.A Think Time : N.A Minimum Instruction Time : 0

Correct Marks : 5 Wrong Marks : 1

Question Key Details :

Key	Value
Comprehension	MCQ1

"बिहारी सतसाय" कोने लिखिह्ल ?

1. बिहारी दास
2. केशव दास
3. बिहारी लाल
4. जयदेव

Options :

485584144633. 1  
485584144634. 2  
485584144635. 3  
485584144636. 4

Question Number : 409 Question Id : 48558436159 Question Type : MCQ Option Shuffling : No Is Question Mandatory : No Calculator : None  
Response Time : N.A Think Time : N.A Minimum Instruction Time : 0

Correct Marks : 5 Wrong Marks : 1

Question Key Details :

Key	Value
Comprehension	MCQ1

বিহারী সৎসই লিখেছিলেন ?

1. বিহারী দাস
2. কেশব দাস
3. বিহারী লাল
4. জয়দেব

Options :

485584144633. 1  
485584144634. 2  
485584144635. 3  
485584144636. 4

Question Number : 409 Question Id : 48558436159 Question Type : MCQ Option Shuffling : No Is Question Mandatory : No Calculator : None Response Time : N.A Think Time : N.A Minimum Instruction Time : 0

Correct Marks : 5 Wrong Marks : 1

Question Key Details :

Key	Value
Comprehension	MCQ1

কিনা দ্বারা "বিহারী সতসাই" রচনায় আখ্যুঁ উ ?

1. বিহারী দাস
2. কেশব দাস
3. বিহারী লাল
4. জয়দেব

Options :

485584144633. 1  
485584144634. 2  
485584144635. 3  
485584144636. 4

Question Number : 409 Question Id : 48558436159 Question Type : MCQ Option Shuffling : No Is Question Mandatory : No Calculator : None Response Time : N.A Think Time : N.A Minimum Instruction Time : 0

Correct Marks : 5 Wrong Marks : 1

Question Key Details :

Key	Value
Comprehension	MCQ1

'বীকারি সত্ৰায়ী'র সঁসারকত্ৰীওঁড়ী জ্বরিওঁ

1. বীকারি দাস
2. কেশব দাস
3. বীকারি লাল
4. জয়দেব

Options :

485584144633. 1  
485584144634. 2  
485584144635. 3  
485584144636. 4

Question Number : 409 Question Id : 48558436159 Question Type : MCQ Option Shuffling : No Is Question Mandatory : No Calculator : None Response Time : N.A Think Time : N.A Minimum Instruction Time : 0

Correct Marks : 5 Wrong Marks : 1

Question Key Details :

Key	Value
Comprehension	MCQ1

"ബിഹാരി സത്സായി" രചിച്ചത് ആര് ?

1. ബിഹാരി ദാസ്
2. കേശവ് ദാസ്
3. ബിഹാരി ലാൽ
4. ജയദേവ

Options :

485584144633. 1  
485584144634. 2  
485584144635. 3  
485584144636. 4

Question Number : 409 Question Id : 48558436159 Question Type : MCQ Option Shuffling : No Is Question Mandatory : No Calculator : None Response Time : N.A Think Time : N.A Minimum Instruction Time : 0

Correct Marks : 5 Wrong Marks : 1

Question Key Details :

Key	Value
Comprehension	MCQ1

"बिहारी सतसाई" चे लेखक कोण आहेत?

1. बिहारी दास
2. केशव दास
3. बिहारी लाल
4. जयदेव

Options :

485584144633. 1  
485584144634. 2  
485584144635. 3  
485584144636. 4

Question Number : 409 Question Id : 48558436159 Question Type : MCQ Option Shuffling : No Is Question Mandatory : No Calculator : None Response Time : N.A Think Time : N.A Minimum Instruction Time : 0

Correct Marks : 5 Wrong Marks : 1

Question Key Details :

Key	Value
Comprehension	MCQ1

"विशाला खलवाक" क लेखक कौन ?

1. विशाला वाव
2. लेखक वाव
3. विशाला लाल
4. हनुमन्त

**Options :**

485584144633. 1  
485584144634. 2  
485584144635. 3  
485584144636. 4

**Question Number : 409 Question Id : 48558436159 Question Type : MCQ Option Shuffling : No Is Question Mandatory : No Calculator : None Response Time : N.A Think Time : N.A Minimum Instruction Time : 0**

**Correct Marks : 5 Wrong Marks : 1**

**Question Key Details :**

Key	Value
Comprehension	MCQ1

ਬਿਹਾਰੀ ਮੌਤਮਾਈ ਦਾ ਲੇਖਕ ਹੈ?

1. ਬਿਹਾਰੀ ਦਾਸ
2. ਕੇਸਵ ਦਾਸ
3. ਬਿਹਾਰੀ ਲਾਲ
4. ਜੈਦੇਵ

**Options :**

485584144633. 1  
485584144634. 2  
485584144635. 3  
485584144636. 4

**Question Number : 409 Question Id : 48558436159 Question Type : MCQ Option Shuffling : No Is Question Mandatory : No Calculator : None Response Time : N.A Think Time : N.A Minimum Instruction Time : 0**

**Correct Marks : 5 Wrong Marks : 1**

**Question Key Details :**

Key	Value
Comprehension	MCQ1

"ਪਿਠਾਰੀ ਸਤਸਾਯ" ਈਠਪਠੁ ਈਵਰਾਲ ਈਠੁਠਪਪੱਠੁ:

1. ਪਿਠਾਰੀ ਠਾਲੁ
2. ਕੇਠੁਵੁ ਠਾਲੁ
3. ਪਿਠਾਰੀ ਲਾਲੁ
4. ਈਠੁਠਠੇਵਰੁ

**Options :**

485584144633. 1  
485584144634. 2

485584144635. 3  
485584144636. 4

Question Number : 409 Question Id : 48558436159 Question Type : MCQ Option Shuffling : No Is Question Mandatory : No Calculator : None  
Response Time : N.A Think Time : N.A Minimum Instruction Time : 0

Correct Marks : 5 Wrong Marks : 1

Question Key Details :

Key	Value
Comprehension	MCQ1

"బిహారీ సత్సయి" రాసినది ఎవరు?

1. బిహారీ దాస్
2. కేశవ దాస్
3. బిహారీ లాల్
4. జయదేవ

Options :

485584144633. 1  
485584144634. 2  
485584144635. 3  
485584144636. 4

Question Number : 409 Question Id : 48558436159 Question Type : MCQ Option Shuffling : No Is Question Mandatory : No Calculator : None  
Response Time : N.A Think Time : N.A Minimum Instruction Time : 0

Correct Marks : 5 Wrong Marks : 1

Question Key Details :

Key	Value
Comprehension	MCQ1

"Bihari Satsai" کس نے لکھی ہیں؟

1. بہاری داس
2. کیشو داس
3. بہاری لال
4. جے دیوا

Options :

485584144633. 1  
485584144634. 2  
485584144635. 3  
485584144636. 4

Question Number : 410 Question Id : 48558436160 Question Type : MCQ Option Shuffling : No Is Question Mandatory : No Calculator : None  
Response Time : N.A Think Time : N.A Minimum Instruction Time : 0

Correct Marks : 5 Wrong Marks : 1

Question Key Details :

Key	Value
Comprehension	MCQ1

The Deccan miniature painting "Ragini Pathamsika of Raga Hindola" is placed in which famous museum?

1. National Gallery of Modern Art, New Delhi
2. National Museum, New Delhi
3. British Museum, London
4. National Museum, Prague

Options :

485584144637. 1  
485584144638. 2  
485584144639. 3  
485584144640. 4

Question Number : 410 Question Id : 48558436160 Question Type : MCQ Option Shuffling : No Is Question Mandatory : No Calculator : None Response Time : N.A Think Time : N.A Minimum Instruction Time : 0

Correct Marks : 5 Wrong Marks : 1

Question Key Details :

Key	Value
Comprehension	MCQ1

दक्कन लघु चित्रशैली का चित्र राग हिंडोला की रागिनी पथमसिका किस प्रसिद्ध संग्रहालय में रखी है?

1. नेशनल गैलरी ऑफ़ मॉडर्न आर्ट, नई दिल्ली
2. नेशनल म्यूजियम (राष्ट्रीय संग्रहालय) नई दिल्ली
3. ब्रिटिश संग्रहालय, लन्दन
4. राष्ट्रीय संग्रहालय, परागुए

Options :

485584144637. 1  
485584144638. 2  
485584144639. 3  
485584144640. 4

Question Number : 410 Question Id : 48558436160 Question Type : MCQ Option Shuffling : No Is Question Mandatory : No Calculator : None Response Time : N.A Think Time : N.A Minimum Instruction Time : 0

Correct Marks : 5 Wrong Marks : 1

Question Key Details :

Key	Value
Comprehension	MCQ1

ডেক্কান মিনি.এচিউব চিত্রশিল্প, রাগিনী পথমসিকা অফ রাগা হিন্দোলা কোনটো সংগ্রহালয়ত আছে ?

1. নেচনেল গেলারী অফ মডার্ন আর্ট, নতুন দিল্লী
2. নেচনেল মিউজিয়াম, নতুন দিল্লী
3. ব্রিটিশ মিউজিয়াম, লন্ডন
4. নেচনেল মিউজিয়াম, প্রাগ

Options :

485584144637. 1  
485584144638. 2  
485584144639. 3  
485584144640. 4

Question Number : 410 Question Id : 48558436160 Question Type : MCQ Option Shuffling : No Is Question Mandatory : No Calculator : None  
Response Time : N.A Think Time : N.A Minimum Instruction Time : 0

Correct Marks : 5 Wrong Marks : 1

Question Key Details :

Key	Value
Comprehension	MCQ1

ডেকান মিনিয়োর পেন্টিং পথশিক্ষা, রাগিনী পথশিক্ষা অফ রাগ হিল্লোনা কোন ষাদুঘরে রাখা আছে ?

1. ন্যাশনাল গ্যালারি অফ মডার্ন আর্ট, নিউ দিল্লী
2. ন্যাশনাল মিউজিয়াম, নিউ দিল্লী
3. ব্রিটিশ মিউজিয়াম, লন্ডন
4. ন্যাশনাল মিউজিয়াম, প্রয়াগ

Options :

485584144637. 1

485584144638. 2

485584144639. 3

485584144640. 4

Question Number : 410 Question Id : 48558436160 Question Type : MCQ Option Shuffling : No Is Question Mandatory : No Calculator : None  
Response Time : N.A Think Time : N.A Minimum Instruction Time : 0

Correct Marks : 5 Wrong Marks : 1

Question Key Details :

Key	Value
Comprehension	MCQ1

ডেকান লম্বুয়িত্র পেইন্টিং পথশিক্ষা, রাজ হিডোলানী রাগিনী পথশিক্ষা কয়া প্রখ্যাত ম্যুজিয়ামমা মূক্বামা আল্যা  
ঐ ?

1. নেশনল বেবেরী অফ মডার্ন আর্ট, নবী হিহ্লী
2. নেশনল ম্যুজিয়াম, নবী হিহ্লী
3. ব্রিটিশ ম্যুজিয়াম, লন্ডন
4. নেশনল ম্যুজিয়াম, প্রায়

Options :

485584144637. 1

485584144638. 2

485584144639. 3

485584144640. 4

Question Number : 410 Question Id : 48558436160 Question Type : MCQ Option Shuffling : No Is Question Mandatory : No Calculator : None  
Response Time : N.A Think Time : N.A Minimum Instruction Time : 0

Correct Marks : 5 Wrong Marks : 1

Question Key Details :

Key	Value
Comprehension	MCQ1





**Options :**

- 485584144637. 1
- 485584144638. 2
- 485584144639. 3
- 485584144640. 4

**Question Number : 410 Question Id : 48558436160 Question Type : MCQ Option Shuffling : No Is Question Mandatory : No Calculator : None Response Time : N.A Think Time : N.A Minimum Instruction Time : 0**

**Correct Marks : 5 Wrong Marks : 1**

**Question Key Details :**

Key	Value
Comprehension	MCQ1

ਦੇਸ਼ਜਾਨ ਸਿੱਖਿਅਕ ਕੌਸ਼ਲਾਂ। ਕੌਸ਼ਲ ਵਿਕਸੇਕਾਰ ਕਾਰਿਕਾ ਪਾਠਮੀਕਾ ਕੌਸ਼ਲ ਪ੍ਰਬੰਧ ਪਾਠਮੀਕਾ ਕੌਸ਼ਲ ਵਿਕਸੇਕਾਰ ?

- 1. ਦੇਸ਼ਜਾਨ ਕੌਸ਼ਲਾਂ ਕੌਸ਼ਲਾਂ ਕੌਸ਼ਲਾਂ, ਕੌਸ਼ਲਾਂ
- 2. ਦੇਸ਼ਜਾਨ ਕੌਸ਼ਲਾਂ, ਕੌਸ਼ਲਾਂ
- 3. ਕੌਸ਼ਲਾਂ ਕੌਸ਼ਲਾਂ, ਕੌਸ਼ਲਾਂ
- 4. ਦੇਸ਼ਜਾਨ ਕੌਸ਼ਲਾਂ, ਕੌਸ਼ਲਾਂ

**Options :**

- 485584144637. 1
- 485584144638. 2
- 485584144639. 3
- 485584144640. 4

**Question Number : 410 Question Id : 48558436160 Question Type : MCQ Option Shuffling : No Is Question Mandatory : No Calculator : None Response Time : N.A Think Time : N.A Minimum Instruction Time : 0**

**Correct Marks : 5 Wrong Marks : 1**

**Question Key Details :**

Key	Value
Comprehension	MCQ1

ਡੈਕਨ ਲਗਭਗ ਚਿੱਤਰ ਪਾਠਮੀਕਾ, ਰਾਗ ਹਿੰਡੋਲਾ ਦੀ ਰਾਗਿਨੀ ਪਾਠਮੀਕਾ ਕਿਸ ਪ੍ਰਸਿੱਧ ਅਜਾਇਬ ਘਰ ਵਿੱਚ ਸਥਾਪਿਤ ਹੈ?

- 1. ਆਧੁਨਿਕ ਕਲਾ ਦੀ ਰਾਸ਼ਟਰੀ ਗੈਲਰੀ, ਨਵੀਂ ਦਿੱਲੀ
- 2. ਰਾਸ਼ਟਰੀ ਅਜਾਇਬ ਘਰ, ਨਵੀਂ ਦਿੱਲੀ
- 3. ਬ੍ਰਿਟਿਸ਼ ਅਜਾਇਬ ਘਰ, ਲੰਦਨ
- 4. ਰਾਸ਼ਟਰੀ ਅਜਾਇਬ ਘਰ, ਪਰਾਗ

**Options :**

- 485584144637. 1
- 485584144638. 2
- 485584144639. 3
- 485584144640. 4

**Question Number : 410 Question Id : 48558436160 Question Type : MCQ Option Shuffling : No Is Question Mandatory : No Calculator : None Response Time : N.A Think Time : N.A Minimum Instruction Time : 0**

**Correct Marks : 5 Wrong Marks : 1**

**Question Key Details :**

Key	Value
Comprehension	MCQ1

ராகா ஹிந்தோளா வின் டெக்கானிய சிற்றளவு ஒவியங்கள் பதாயிஸ்கா, ராகினி பதாயிஸ்கா என்பன எந்த புகழ்பெற்ற மியூசியத்தில் வைக்கப்பட்டுள்ளன?

1. தேசிய நவீன கலைக்கூடம், புதுதில்லி
2. தேசிய மியூசியம், புதுதில்லி
3. பிரிட்டிஷ் மியூசியம், லண்டன்
4. தேசிய மியூசியம், ப்ரேக்

Options :

485584144637. 1  
485584144638. 2  
485584144639. 3  
485584144640. 4

Question Number : 410 Question Id : 48558436160 Question Type : MCQ Option Shuffling : No Is Question Mandatory : No Calculator : None Response Time : N.A Think Time : N.A Minimum Instruction Time : 0

Correct Marks : 5 Wrong Marks : 1

Question Key Details :

Key	Value
Comprehension	MCQ1

தக்துஸு லமூ வர்த்தி விஜாலென ராக் ஹிண்டி லீனி வதஸிசு, ராகினி வதஸிசு லு வுத்யூத் மூஜியலில் டுண்டபலூயா?

1. நேஸனல் க்யூலர் அஃ மாதரன் அர்ட், ந்யூ டில்லி
2. நேஸனல் மூஜியலம், ந்யூ டில்லி
3. ட்ரிபீஸி மூஜியலம், லண்டன்
4. நேஸனல் மூஜியலம், ட்ரேக்

Options :

485584144637. 1  
485584144638. 2  
485584144639. 3  
485584144640. 4

Question Number : 410 Question Id : 48558436160 Question Type : MCQ Option Shuffling : No Is Question Mandatory : No Calculator : None Response Time : N.A Think Time : N.A Minimum Instruction Time : 0

Correct Marks : 5 Wrong Marks : 1

Question Key Details :

Key	Value
Comprehension	MCQ1

பிஸ்தாஃ ராக் ஹிண்டி லீனி வதஸிசு லு வுத்யூத் மூஜியலில் டுண்டபலூயா?

1. நேஸனல் க்யூலர் அஃ மாதரன் அர்ட், ந்யூ டில்லி
2. நேஸனல் மூஜியலம், ந்யூ டில்லி
3. ட்ரிபீஸி மூஜியலம், லண்டன்
4. நேஸனல் மூஜியலம், ட்ரேக்

Options :

485584144637. 1  
485584144638. 2

485584144639. 3  
485584144640. 4

Sub-Section Number : 2  
Sub-Section Id : 4855842811  
Question Shuffling Allowed : No  
Is Section Default? : null

Question Number : 411 Question Id : 48558436161 Question Type : MCQ Option Shuffling : No Is Question Mandatory : No Calculator : None  
Response Time : N.A Think Time : N.A Minimum Instruction Time : 0  
Correct Marks : 5 Wrong Marks : 1

Question Key Details :

Key	Value
Comprehension	Comp1

Observe the image and answer the following question.



Identify the sculptor of this work among the following?

1. D.P Roy Chowdhury
2. Rankinker Bajj
3. Amarnath Sahgal
4. P.V. Janakiram

Options :

485584144641. 1  
485584144642. 2  
485584144643. 3  
485584144644. 4

Question Number : 411 Question Id : 48558436161 Question Type : MCQ Option Shuffling : No Is Question Mandatory : No Calculator : None  
Response Time : N.A Think Time : N.A Minimum Instruction Time : 0  
Correct Marks : 5 Wrong Marks : 1

Question Key Details :

Key	Value
Comprehension	Comp1

नीचे आकृति देखकर निम्न प्रश्न का उत्तर दीजिए:



निम्न में से इस कला के मूर्तिकार को पहचानिए:

1. टी.पी. रॉय चौधुरी
2. रामकिंकर बैज
3. अमरनाथ सहगल
4. पी.वी. जानकीराम

Options :

485584144641. 1  
485584144642. 2  
485584144643. 3  
485584144644. 4

Question Number : 411 Question Id : 48558436161 Question Type : MCQ Option Shuffling : No Is Question Mandatory : No Calculator : None Response Time : N.A Think Time : N.A Minimum Instruction Time : 0

Correct Marks : 5 Wrong Marks : 1

Question Key Details :

Key	Value
Comprehension	Comp1

এই ছবি খন জানদৰে লক্ষ্য কৰা আৰু তলত দিয়া প্ৰশ্নৰ উত্তৰ দিয়া ।



Identify the sculptor among the following?

1. टी.पी. बरगौधुरी
2. रामकिंकर बैज
3. अमरनाथ श्वेहगल
4. पी.वि. जानकीराम

**Options :**

485584144641. 1  
485584144642. 2  
485584144643. 3  
485584144644. 4

Question Number : 411 Question Id : 48558436161 Question Type : MCQ Option Shuffling : No Is Question Mandatory : No Calculator : None  
Response Time : N.A Think Time : N.A Minimum Instruction Time : 0

Correct Marks : 5 Wrong Marks : 1

**Question Key Details :**

Key	Value
Comprehension	Comp1

নীচের অনুচ্ছেদটি পড়। চিত্রটি ভাল করে লক্ষ্য করে প্রশ্নের উত্তর দাও।  
এটি একটি স্থাপত্য যেটি ১৮৫৯-এ খোদাই করা হয়েছিল। এটাতে দেখা যাচ্ছে চারজন মানুষ একটা প্রস্তরখণ্ডকে সরাবার চেষ্টা করছে। একটা রাষ্ট্র গড়ে তোলার জন্য মানুষের শ্রমের মূল্য ও প্রয়োজনীয়তাকে বোঝানো হয়েছে। অদমা পুরুষেরা প্রকৃতির সাথে মিল খুঁজছে। একটা সর্বজনবিদিত রোমান্টিক বিষয় উনিশ শতকের এই স্থাপত্যে বর্ণিত হয়েছে। একটা কায়িকশ্রমের চরম নিদর্শন যা একটা অনড়, বৃহৎ, অনমনীয়, অনড় প্রস্তরখণ্ডকে সরাতে চাইছে। মানব শরীরের এমন নিখুঁত ভাজ সৃষ্টি করা হয়েছে যাতে দর্শকরা সবদিক থেকে স্থাপত্যটি খুঁটিয়ে দেখতে আগ্রহী হয়।



এর মধ্যে কে এই স্থাপত্যের স্রষ্টা ?

1. ডি.পি. রায় চৌধুরী
2. রামকিংকর বেঙ্গ
3. অমরনাথ সিংহাল
4. পি.ভি.জানকীরাম

**Options :**

485584144641. 1  
485584144642. 2  
485584144643. 3  
485584144644. 4

Question Number : 411 Question Id : 48558436161 Question Type : MCQ Option Shuffling : No Is Question Mandatory : No Calculator : None  
Response Time : N.A Think Time : N.A Minimum Instruction Time : 0

Correct Marks : 5 Wrong Marks : 1

**Question Key Details :**

Key	Value
Comprehension	Comp1

નીચે આપેલા ફકરાને વાંચીને, આકૃતિ જોઈ આપેલા પ્રશ્નોના જવાબ આપો.

આ એ શિલ્પ છે, જે 1959 માં બનાવવામાં આવ્યું હતું. તે બતાવે છે કે ચાર માણસો એક ખડકને ખસેડવાનો પ્રયાસ કરી રહ્યા છે. જે રાષ્ટ્ર નિર્માણમાં માનવ શ્રમના મહત્વ અને યોગદાનને રજૂ કરે છે. અજેય માણસો કુદરત સાથે કુસ્તી કરી રહ્યા છે. હઠીલા, અનિશ્ચિત અને શક્તિશાળી. તે કુદરતના તત્વો સામે શ્રમની છબી છે જે ઓગણીસમી સદીની જાણીતી રોમેન્ટિક વિષય છે. શિલ્પકારો એક વિશાળ, સ્થાવર અડકને ગુમાવવાના આત્યંતિક શારીરિક પ્રયત્નોનું ચિત્રણ કર્યું છે. માનવ આકૃતિઓ એવી રીતે સ્થાપિત કરવામાં આવે છે જે આપણામાં જિજ્ઞાસા પેદા કરે છે. કારણ કે તે દર્શકોને વ્યારે બાજુથી જોવા માટે આકર્ષે છે.



નીચેનામાંથી શિલ્પકારને ઓળખો?

1. ડી.પી. રોય ચૌધરી
2. રામકિંકર બૈજ
3. અમરનાથ સેહગલ
4. પી.વી. જાનકીરામ

Options :

485584144641. 1
485584144642. 2
485584144643. 3
485584144644. 4

Question Number : 411 Question Id : 48558436161 Question Type : MCQ Option Shuffling : No Is Question Mandatory : No Calculator : None Response Time : N.A Think Time : N.A Minimum Instruction Time : 0

Correct Marks : 5 Wrong Marks : 1

Question Key Details :

Key	Value
Comprehension	Comp1

ಕೆಳಗಿನ ವಾಕ್ಯಪುಂಜವನ್ನು ಓದಿ ಮತ್ತು ಚಿತ್ರವನ್ನು ವೀಕ್ಷಿಸಿ ಮತ್ತು ಕೆಳಗಿನ ಪ್ರಶ್ನೆಗಳನ್ನು ಉತ್ತರಿಸಿ.



ಕೆಳಗಿನವರುಗಳಿಂದ ಶಿಲ್ಪಕಲಾಕಾರನನ್ನು ಗುರುತಿಸಿ.

1. ಡಿ.ಪಿ.ರಾಯ್ ಚೌಧರಿ
2. ರಾಮ್ ಕಿಂಕರ್ ಬೈಜ್
3. ಅಮರನಾಥ ಸಹಗಲ್
4. ಪಿ.ವಿ. ಜಾನಕಿರಾಮ್

**Options :**

485584144641. 1  
485584144642. 2  
485584144643. 3  
485584144644. 4

**Question Number : 411 Question Id : 48558436161 Question Type : MCQ Option Shuffling : No Is Question Mandatory : No Calculator : None Response Time : N.A Think Time : N.A Minimum Instruction Time : 0**

**Correct Marks : 5 Wrong Marks : 1**

**Question Key Details :**

Key	Value
Comprehension	Comp1





ഇതിന്റെ ശില്പി ആരാണ് കണ്ടെത്തുക ?

1. ഡി.പി. അയ്യപ്പൻ
2. രാം കിഷൻ ബെജ്
3. അമർനാഥ് സഹഗൽ
4. പി.വി. ജാനകിറാം

**Options :**

- 485584144641. 1
- 485584144642. 2
- 485584144643. 3
- 485584144644. 4

**Question Number : 411 Question Id : 48558436161 Question Type : MCQ Option Shuffling : No Is Question Mandatory : No Calculator : None Response Time : N.A Think Time : N.A Minimum Instruction Time : 0**

**Correct Marks : 5 Wrong Marks : 1**

**Question Key Details :**

Key	Value
Comprehension	Compl

पुढील उतारा व हे प्रतिमा पाहून प्रश्नांची उत्तरे लिहा.

1959 मध्ये बनवलेल्या या शिल्पात चार आकृत्या ऑडक्याने मोठा खडक हलवण्याचा प्रयत्न करत असताना अदळतात. राष्ट्र उभारणीत मानवी श्रमाचे महत्त्व प्रतिबिंबित होताना व त्या श्रमाचे योगदान असल्याचे दिसते. मनुष्य अजिंक्य निसर्गाच्या शातकातील एक प्रसिध्द रोमांचकारी विषय मॉडला आहे. शिल्पकाराने मोठ्या प्रमाणात अचल खडक सैल करण्याचा प्रयत्न दाखवला आहे. मानवी आकृत्या अश्या प्रकारे स्थित केल्या आहेत ज्यामुळे दर्शकांचे कुतुहल जागृत होऊन ती सर्व बाजूने शिल्प पाहण्यासाठी प्रवृत्त होतो.



ह्या शिल्पाचा शिल्पकार ओळखा

1. डी.पी. रॉय चौधरी
2. रामकिंकर बैज
3. अमरनाथ सेहगल
4. पी व्ही जानकीराम

**Options :**

485584144641. 1  
485584144642. 2  
485584144643. 3  
485584144644. 4

**Question Number : 411 Question Id : 48558436161 Question Type : MCQ Option Shuffling : No Is Question Mandatory : No Calculator : None Response Time : N.A Think Time : N.A Minimum Instruction Time : 0**


**Correct Marks : 5 Wrong Marks : 1**

**Question Key Details :**

Key	Value
Comprehension	Comp1

ବିପ୍ଳବୀୟତା ଅନୁଭବର ପଦକୁ ଏବଂ ଦୁଃଖକୁ ଦେଖି ନିମ୍ନ ଉତ୍ତର ଦିଅନ୍ତୁ

"ଏହି ମୂର୍ତ୍ତି 1959ରେ ଗଢ଼ା ହୋଇଥିଲା, ଏହା ଗାନ୍ଧିଜୀ ପୁରୁଷକୁ ଏକ ପଥର ଚକାରଦ୍ୱାରା ଦେଖା କରୁଥିବା ଦେଖାଏ, ଗାନ୍ଧି ଭାବନାରେ ମାନବ ଶ୍ରମର ସ୍ତୂପର ଏବଂ ଅବଦାନକୁ ଦର୍ଶାଏ। ଅବିସ୍ମରଣୀୟ ପୁରୁଷମାନେ ପ୍ରକୃତି ସହିତ ସଂଘର୍ଷ କରୁଛନ୍ତି। ଅଧିକିତ୍ତ ଏବଂ ଶକ୍ତିଶାଳୀ। ଏହା ପ୍ରକୃତିର ଉପାଦାନ ସୃଷ୍ଟିକ ବିରୁଦ୍ଧରେ ଶ୍ରମର ଚିତ୍ର 19 ଶତାବ୍ଦୀର ଏକ କଣ୍ଠାସୂତା ଏବଂ ଗୋମାଞ୍ଜର ବିଷୟ। ଶିଳ୍ପୀ ଏକ ବିରାଟ ଅଭାବର ପଥରକୁ ସୂତା ଜରିଭାର ବରମ ଶାନ୍ତାଭିନ ପ୍ରାୟସକୁ ଚିତ୍ରଣ କରିଛନ୍ତି। ମାନବ ଚିତ୍ର ସ୍ତୂପର ଏପରି ଭାବରେ ସଂଯୋଗିତ ହୋଇଛି ଯାହା ଆମ ଭିତରେ ଏହା କରି ସୃଷ୍ଟି କରିବା କାରଣ ଦର୍ଶନମାନେ ଏହାକୁ ସବୁ ବିଗଳୁ ଦେଖିବା ପାଇଁ ଦର୍ଶନକୁ ଆବର୍ତ୍ତିତ କରିଛି।



ଏହି ମୂର୍ତ୍ତି ର ନିର୍ମାତା କିଏ ?

1. ଟି.ଟି ଉଏ ଚୌଧୁରୀ
2. ଭାନୁଜୀର ଦେବ
3. ଅମରନାଥ ବେହରା
4. ପି.ଭି. ସାହବାନ

Options :

- 485584144641. 1
- 485584144642. 2
- 485584144643. 3
- 485584144644. 4

Question Number : 411 Question Id : 48558436161 Question Type : MCQ Option Shuffling : No Is Question Mandatory : No Calculator : None Response Time : N.A Think Time : N.A Minimum Instruction Time : 0

Correct Marks : 5 Wrong Marks : 1

Question Key Details :

Key	Value
Comprehension	Comp1

ਇਹ ਮੁਰਤੀ 1959 ਵਿੱਚ ਤਿਆਰ ਕੀਤੀ ਗਈ। ਇਸ ਵਿੱਚ ਚਾਰ ਆਦਮੀ ਇੱਕ ਚਟਾਨ ਨੂੰ ਹਿਲਾਉਣ ਦੀ ਕੋਸ਼ਿਸ਼ ਕਰਦੇ ਦਿਖਾਈ ਦੇ ਰਹੇ ਹਨ, ਰਾਸ਼ਟਰੀ ਨਿਰਮਾਣ ਵਿੱਚ ਮਹੱਤਤਾ ਅਤੇ ਯੋਗਦਾਨ ਦੀ ਪੇਸ਼ਕਾਰੀ ਹੈ। ਅਜਿਹੇ ਆਦਮੀ ਕੁੜੀਆਂ ਵਾਂਗ ਅਣਥੱਕ ਅਤੇ ਤਾਕਤਵਰ ਢੰਗ ਨਾਲ ਕੁਦਰਤ ਨਾਲ ਕੁਸ਼ਲੀ ਕਰ ਰਹੇ ਹਨ। ਇਹ ਕੁਦਰਤ ਦੇ ਤੱਤਾਂ ਦੇ ਵਿਰੁੱਧ ਕਿਰਪਾ ਦਾ ਚਿੰਨ੍ਹ ਹੈ, ਇਹ 19ਵੀਂ ਸਦੀ ਦਾ ਇੱਕ ਮਸ਼ਹੂਰ ਰੋਮਾਂਟਿਕ ਵਿਸ਼ਾ ਹੈ। ਮੁਰਤੀਕਾਰ ਨੇ ਇੱਕ ਵਿਚਲ ਅਚੱਲ ਚਟਾਨ ਨੂੰ ਹਟਾਉਣ ਦੇ ਅਤਿਅੰਤ ਸਰੀਰਿਕ ਯਤਨ ਨੂੰ ਦਰਸਾਇਆ ਹੈ। ਮਨੁੱਖੀ ਚਿੰਤਨ ਨੂੰ ਇਸ ਤਰੀਕੇ ਨਾਲ ਸੰਕੀਰਣ ਕੀਤਾ ਜਾਂਦਾ ਹੈ ਜੋ ਸਾਡੇ ਵਿੱਚ ਇੱਕ ਉਤਸੁਕਤਾ ਪੈਦਾ ਕਰਦਾ ਅਤੇ ਦਰਸਕਾਂ ਨੂੰ ਹੋਰ ਪਾਸਿਉਂ ਦੇਖਣ ਲਈ ਆਕਰਸ਼ਿਤ ਕਰਦੇ ਹਨ।



ਹੇਠ ਲਿਖਿਆਂ ਵਿੱਚੋਂ ਮੁਰਤੀਕਾਰ ਪਛਾਣੋ:

1. ਡੀ. ਪੀ. ਰਾਏ ਚੌਧਰੀ
2. ਰਾਮਕਿੰਕਰ ਵੈਸ਼
3. ਅਮਰਨਾਥ ਸਹਿਗਲ
4. ਪ. ਵ. ਜਨਕੀਰਾਮ

Options :

485584144641. 1  
 485584144642. 2  
 485584144643. 3  
 485584144644. 4

Question Number : 411 Question Id : 48558436161 Question Type : MCQ Option Shuffling : No Is Question Mandatory : No Calculator : None Response Time : N.A Think Time : N.A Minimum Instruction Time : 0

Correct Marks : 5 Wrong Marks : 1

Question Key Details :

Key	Value
Comprehension	Comp1



பின்வருபவர்களில் இதன் சிற்பியைக் கண்டறிக:

1. டி.பி. ராய் செளத்திரி
2. ராம்கின்கர் பைஜ்
3. அமர்நாத் சொவ்ஹல்
4. பி.வி. ஜானகிராமன்

**Options :**

- 485584144641. 1
- 485584144642. 2
- 485584144643. 3
- 485584144644. 4

**Question Number : 411 Question Id : 48558436161 Question Type : MCQ Option Shuffling : No Is Question Mandatory : No Calculator : None Response Time : N.A Think Time : N.A Minimum Instruction Time : 0**

**Correct Marks : 5 Wrong Marks : 1**

**Question Key Details :**

Key	Value
Comprehension	Compl



1. ڈی ای رالے جو دھری
2. رام کنگز بیج
3. امر ناتھ سپنگل
4. بی وی خانکار

**Options :**

485584144641. 1
485584144642. 2
485584144643. 3
485584144644. 4


**Question Number : 412 Question Id : 48558436162 Question Type : MCQ Option Shuffling : No Is Question Mandatory : No Calculator : None Response Time : N.A Think Time : N.A Minimum Instruction Time : 0**

**Correct Marks : 5 Wrong Marks : 1**

**Question Key Details :**

Key	Value
Comprehension	Comp1

Observe the image and answer the following question.



The sculpture is made using which material?

1. Bronze and cement
2. Cement mixed with pebbles
3. Oxidised copper
4. Hemp fiber

**Options :**

485584144645. 1
485584144646. 2
485584144647. 3
485584144648. 4

**Question Number : 412 Question Id : 48558436162 Question Type : MCQ Option Shuffling : No Is Question Mandatory : No Calculator : None Response Time : N.A Think Time : N.A Minimum Instruction Time : 0**

**Correct Marks : 5 Wrong Marks : 1**

**Question Key Details :**

Key	Value
Comprehension	Comp1

नीचे आकृति देखकर निम्न प्रश्न का उत्तर दीजिए:



मूर्तिकला को बनाने में किस माध्यम का उपयोग किया गया है?

1. कांसा और सीमेंट
2. सीमेंट के साथ रोड़ी-बजरी मिश्रण
3. ऑक्सीकृत तांबा
4. सन / पटसन तंतु

Options :

485584144645. 1
485584144646. 2
485584144647. 3
485584144648. 4

Question Number : 412 Question Id : 48558436162 Question Type : MCQ Option Shuffling : No Is Question Mandatory : No Calculator : None Response Time : N.A Think Time : N.A Minimum Instruction Time : 0

Correct Marks : 5 Wrong Marks : 1

Question Key Details :

Key	Value
Comprehension	Comp1

এই ছবি খন ভালদৰে নক্ষা কৰা আৰু তলত দিয়া প্ৰশ্নৰ উত্তৰ দিয়া ।



স্থাপত্যটো কোনটো সামগ্ৰীৰে বনোৱা হৈছিল ?

1. ব্ৰঞ্জ আৰু চিমেন্ট
2. চিমেন্ট আৰু শিল গুটিৰ মিশ্ৰণ
3. অক্সিজাইজ ক'পাৰ
4. হেম্প ফাইবাৰ



**Options :**

485584144645. 1  
485584144646. 2  
485584144647. 3  
485584144648. 4

Question Number : 412 Question Id : 48558436162 Question Type : MCQ Option Shuffling : No Is Question Mandatory : No Calculator : None  
Response Time : N.A Think Time : N.A Minimum Instruction Time : 0

Correct Marks : 5 Wrong Marks : 1

**Question Key Details :**

Key	Value
Comprehension	Comp1

নীচের অনুচ্ছেদটি পড়। চিত্রটি ভাল করে লক্ষ্য করে প্রশ্নের উত্তর দাও।  
এটি একটি স্থাপত্য যেটি ১৮৫৯-এ খোদাই করা হয়েছিল। এটাতে দেখা যাচ্ছে চারজন মানুষ একটা প্রস্তরখণ্ডকে সরাবার চেষ্টা করছে। একটা রাষ্ট্র গড়ে তোলার জন্য মানুষের শ্রমের মূল্য ও প্রয়োজনীয়তাকে বোঝানো হয়েছে। অদমা পুরুষেরা প্রকৃতির সাথে মিলনযুক্ত করছে। একটা সর্বজনবিদিত রোমান্টিক বিষয় উনিশ শতকের এই স্থাপত্যে বর্ণিত হয়েছে। একটা কায়িকশ্রমের চরম নিদর্শন যা একটা অনড়, বৃহৎ, অনমনীয়, অনড় প্রস্তরখণ্ডকে সরাতে চাইছে। মানব শরীরের এমন নিখুঁত ভাজ সৃষ্টি করা হয়েছে যাতে দর্শকরা সবদিক থেকে স্থাপত্যটি খুঁটিয়ে দেখতে আগ্রহী হয়।



স্থাপত্যটি তৈরী হয়েছে কোন উপাদান দিয়ে ?

1. ব্রোঞ্জ এবং সিমেন্ট
2. সিমেন্ট এবং নুড়ি
3. অক্সিডাইজড তামা
4. হেম্প ফাইবার

**Options :**

485584144645. 1  
485584144646. 2  
485584144647. 3  
485584144648. 4

Question Number : 412 Question Id : 48558436162 Question Type : MCQ Option Shuffling : No Is Question Mandatory : No Calculator : None  
Response Time : N.A Think Time : N.A Minimum Instruction Time : 0

Correct Marks : 5 Wrong Marks : 1

**Question Key Details :**

Key	Value
Comprehension	Comp1

નીચે આપેલા ફકરાને વાંચીને, આકૃતિ જોઈ આપેલા પ્રશ્નોના જવાબ આપો.

આ એ શિલ્પ છે, જે 1959 માં બનાવવામાં આવ્યું હતું. તે બતાવે છે કે ચાર માણસો એક ખડકને ખસેડવાનો પ્રયાસ કરી રહ્યા છે. જે રાષ્ટ્ર નિર્માણમાં માનવ શ્રમના મહત્વ અને યોગદાનને રજૂ કરે છે. અજેય માણસો કુદરત સાથે કુસ્તી કરી રહ્યા છે. હઠીલા, અનિશ્ચિત અને શક્તિશાળી. તે કુદરતના તત્વો સામે શ્રમની દબાવે છે જે ઓગણીસમી સદીની જાણીતો રોમેન્ટિક વિષય છે. શિલ્પકારો એક વિશાળ, સ્થાવર અડકને ગુમાવવાના આત્યંતિક શારીરિક પ્રયત્નોનું ચિત્રણ કર્યું છે. માનવ આકૃતિઓ એવી રીતે સ્થાપિત કરવામાં આવે છે જે આપણામાં જિજ્ઞાસા પેદા કરે છે. કારણ કે તે દર્શકોને વ્યારે બાજુથી જોવા માટે આકર્ષે છે.



આપેલ શિલ્પકૃતિ ક્યાં માધ્યમથી બનાવેલ છે ?

1. ઓલ્ડ અને સિમેન્ટ
2. કાંકરા સાથે મિશ્રિત સિમેન્ટ
3. ઓક્સિડાઇઝ કરેલું તાંબુ
4. શણ ના તાંતણા

Options :

485584144645. 1
485584144646. 2
485584144647. 3
485584144648. 4

Question Number : 412 Question Id : 48558436162 Question Type : MCQ Option Shuffling : No Is Question Mandatory : No Calculator : None Response Time : N.A Think Time : N.A Minimum Instruction Time : 0

Correct Marks : 5 Wrong Marks : 1

Question Key Details :

Key	Value
Comprehension	Compl

ಕೆಳಗಿನ ವಾಕ್ಯಪುಂಜವನ್ನು ಓದಿ ಮತ್ತು ಚಿತ್ರವನ್ನು ವೀಕ್ಷಿಸಿ ಮತ್ತು ಕೆಳಗಿನ ಪ್ರಶ್ನೆಗಳನ್ನು ಉತ್ತರಿಸಿ.



ಶಿಲ್ಪಕಲೆಯನ್ನು ಯಾವ ಮಾಧ್ಯಮದಿಂದ ನಿರ್ಮಿಸಲಾಗಿದೆ?

1. ಕಂಚು ಮತ್ತು ಸಿಮೆಂಟ್
2. ಗಣ್ಣು ಕಲ್ಲುಗಳು ಮಿಶ್ರಿತ ಗಂಧರ್ವಜನ
3. ಅಕ್ಕಿಡೈಸ್ಟ್ ತಾಮ್ರ
4. ಗೆಣಬಿನ ನಾರು

**Options :**

485584144645. 1  
485584144646. 2  
485584144647. 3  
485584144648. 4

**Question Number : 412 Question Id : 48558436162 Question Type : MCQ Option Shuffling : No Is Question Mandatory : No Calculator : None Response Time : N.A Think Time : N.A Minimum Instruction Time : 0**

**Correct Marks : 5 Wrong Marks : 1**

**Question Key Details :**

Key	Value
Comprehension	Comp1



ഏത് മാധ്യമം ഉപയോഗിച്ചാണ് ഈ ശില്പം നിർമ്മിച്ചിട്ടുള്ളത് ?

1. വെങ്കലവും, സിമെന്റും
2. സിമെന്റും കല്ലുകളും സംയോജിപ്പിച്ച്
3. ഓക്സിഡൈസ് ചെയ്ത ചെമ്പ്
4. ഹെറിംഗ് ബ്ലൈറ്റ്

**Options :**

- 485584144645. 1
- 485584144646. 2
- 485584144647. 3
- 485584144648. 4

**Question Number : 412 Question Id : 48558436162 Question Type : MCQ Option Shuffling : No Is Question Mandatory : No Calculator : None Response Time : N.A Think Time : N.A Minimum Instruction Time : 0**

**Correct Marks : 5 Wrong Marks : 1**

**Question Key Details :**

Key	Value
Comprehension	Comp1

पुढील उतारा व हे प्रतिमा पाहून प्रश्नांची उत्तरे लिहा.

1959 मध्ये बनवलेल्या या शिल्पात चार आकृत्या ऑडक्याने मोठा खडक हलवण्याचा प्रयत्न करत असताना अडळतात. राष्ट्र उभारणीत मानवी श्रमाचे महत्त्व प्रतिबिंबित होताना व त्या श्रमाचे योगदान असल्याचे दिसते. मनुष्य अजिंक्य निसर्गाच्या शक्तकातील एक प्रसिध्द रोमांचकारी विषय मॉडला आहे. शिल्पकाराने मोठ्या प्रमाणात अचल खडक सैल करण्याचा प्रयत्न दाखवला आहे. मानवी आकृत्या अश्या प्रकारे स्थित केल्या आहेत ज्यामुळे दर्शकांचे कुतूहल जागृत होऊन ती सर्व बाजूने शिल्प पाहण्यासाठी प्रवृत्त होतो.



ह्या शिल्पात कोणते माध्यम वापरले आहे?

1. कांस्य आणि सिमेंट
2. दगडांबरोबर सिमेंट मिश्र करून
3. ऑक्सिडाइड्ड तांबे
4. (अंबाठीचे दागे (घायपात) ताग

**Options :**

- 485584144645. 1
- 485584144646. 2
- 485584144647. 3
- 485584144648. 4

**Question Number : 412 Question Id : 48558436162 Question Type : MCQ Option Shuffling : No Is Question Mandatory : No Calculator : None Response Time : N.A Think Time : N.A Minimum Instruction Time : 0**


**Correct Marks : 5 Wrong Marks : 1**

**Question Key Details :**

Key	Value
Comprehension	Comp1

ବିପ୍ଳବୀୟତା ଅନୁଭବର ପଦକୁ ଏବଂ ଦୁଃଖକୁ ଦେଖି ନିମ୍ନ ଉତ୍ତର ଦିଅନ୍ତୁ

"ଏହି ମୂର୍ତ୍ତି 1959ରେ ଗଢ଼ା ହୋଇଥିଲା, ଏହା ଗାନ୍ଧିଜୀ ପୁରୁଷକୁ ଏକ ପଥର ଚକାରଦ୍ୱାରା ଦେଖା କରୁଥିବା ଦେଖାଏ, ଗାନ୍ଧିଜୀ ତାହାରେ ମାନବ ଶ୍ରମର ସ୍ତୂପକୁ ଏବଂ ଅବଦାନକୁ ଦର୍ଶାଏ। ଅବିସ୍ମରଣୀୟ ପୁରୁଷମାନେ ପ୍ରକୃତି ସହିତ ସଂଘର୍ଷ କରୁଛନ୍ତି। ଅଧିକୃଷ୍ଟ ଏବଂ ଶକ୍ତିଶାଳୀ। ଏହା ପ୍ରକୃତିର ଉପାଦାନ ସୃଷ୍ଟିକ ବିରୁଦ୍ଧରେ ଶ୍ରମର ଚିତ୍ର 19 ଶତାବ୍ଦୀର ଏକ କଣ୍ଠାସୁଣୀ ଏବଂ ଗୋମାଞ୍ଜର ବିଷୟ। ଶିଳ୍ପୀ ଏକ ବିରାଟ ଅଭାବର ପଥରକୁ ସୂତା ଜରିଭାବ ଦରମ ଶାନ୍ତାଧିନ ପ୍ରାୟସକୁ ବିତ୍ରଣ କରିଛନ୍ତି। ମାନବ ଚିତ୍ର ସ୍ତୂପର ଏପରି ଭାବରେ ସଂଯୋଗିତ ହୋଇଛି ଯାହା ଆମ ଭିତରେ ଏବଂ ଜରି ସୃଷ୍ଟି କରିବା କାରଣ ଦର୍ଶନମାନେ ଏହାକୁ ସବୁ ବିଷୟ ଦେଖିବା ପାଇଁ ଦର୍ଶନକୁ ଆବର୍ତ୍ତିତ କରିଛି।



ମୂର୍ତ୍ତିଟି କେଉଁ ଉପାଦାନରେ ତିଆରି ?

1. କଂକ୍ରିଟ୍ ଏବଂ ସିମେଣ୍ଟ
2. ସିମେଣ୍ଟ ସହିତ ମିଶ୍ରିତ ପଥର
3. ଅସ୍ମିତାକର ତମ୍ବା
4. ଚୋଟି ପାଥର

Options :

- 485584144645. 1
- 485584144646. 2
- 485584144647. 3
- 485584144648. 4

Question Number : 412 Question Id : 48558436162 Question Type : MCQ Option Shuffling : No Is Question Mandatory : No Calculator : None Response Time : N.A Think Time : N.A Minimum Instruction Time : 0

Correct Marks : 5 Wrong Marks : 1

Question Key Details :

Key	Value
Comprehension	Comp1

ਇਹ ਮੁਰਤੀ 1959 ਵਿੱਚ ਤਿਆਰ ਕੀਤੀ ਗਈ। ਇਸ ਵਿੱਚ ਚਾਰ ਆਦਮੀ ਇੱਕ ਚਟਾਨ ਨੂੰ ਹਿਲਾਉਣ ਦੀ ਕੋਸ਼ਿਸ਼ ਕਰਦੇ ਦਿਖਾਈ ਦੇ ਰਹੇ ਹਨ, ਰਾਸ਼ਟਰੀ ਨਿਰਮਾਣ ਵਿੱਚ ਮਹੱਤਤਾ ਅਤੇ ਯੋਗਦਾਨ ਦੀ ਪੇਸ਼ਕਾਰੀ ਹੈ। ਅਜਿਹੇ ਆਦਮੀ ਕੁੱਝ ਵਾਂਗ ਅਣਥੱਕ ਅਤੇ ਤਾਕਤਵਰ ਢੰਗ ਨਾਲ ਕੁਦਰਤ ਨਾਲ ਕੁਸ਼ਲੀ ਕਰ ਰਹੇ ਹਨ। ਇਹ ਕੁਦਰਤ ਦੇ ਤੱਤਾਂ ਦੇ ਵਿਰੁੱਧ ਕਿਰਪਾ ਦਾ ਚਿੰਨ੍ਹ ਹੈ, ਇਹ 19ਵੀਂ ਸਦੀ ਦਾ ਇੱਕ ਮਸ਼ਹੂਰ ਰੋਮਾਂਟਿਕ ਵਿਸ਼ਾ ਹੈ। ਮੁਰਤੀਕਾਰ ਨੇ ਇੱਕ ਵਿਚਲ ਅਚੱਲ ਚਟਾਨ ਨੂੰ ਹਟਾਉਣ ਦੇ ਅਤਿਅੰਤ ਸਰੀਰਿਕ ਯਤਨ ਨੂੰ ਦਰਸਾਇਆ ਹੈ। ਮਨੁੱਖੀ ਚਿੰਤਨ ਨੂੰ ਇਸ ਤਰੀਕੇ ਨਾਲ ਸੰਕੇਪਿਤ ਕੀਤਾ ਜਾਂਦਾ ਹੈ ਜੋ ਸਾਡੇ ਵਿੱਚ ਇੱਕ ਉਤਨੁੱਕਤਾ ਪੈਦਾ ਕਰਦਾ ਅਗਲੇ ਦਰਸਕਾਂ ਨੂੰ ਹੋਰ ਪਾਸਿਉਂ ਦੇਖਣ ਲਈ ਆਕਰਸ਼ਿਤ ਕਰਦੇ ਹਨ।



ਮੁਰਤੀ ਕਿਸ ਮਾਧਿਅਮ ਦੀ ਬਣਾਈ ਗਈ ਹੈ?

1. ਕਾਂਸਾ ਅਤੇ ਸੀਮੇਂਟ
2. ਪੱਥਰਾਂ ਵਿੱਚ ਸੀਮੇਂਟ ਦਾ ਮਿਸ਼ਰਣ
3. ਆਕਸੀਡਾਈਜ਼ਡ ਤਾਂਬਾ
4. ਭੰਗ ਫਾਈਬਰ

**Options :**

485584144645. 1  
 485584144646. 2  
 485584144647. 3  
 485584144648. 4

Question Number : 412 Question Id : 48558436162 Question Type : MCQ Option Shuffling : No Is Question Mandatory : No Calculator : None  
 Response Time : N.A Think Time : N.A Minimum Instruction Time : 0

Correct Marks : 5 Wrong Marks : 1

Question Key Details :

Key	Value
Comprehension	Comp1



இந்தச் சிற்பம் எந்த பொருள் கொண்டு செய்யப்பட்டுள்ளது?

1. வெண்கலம் மற்றும் சிமெண்ட்
2. கூலாங்கல்பூடன் கலக்கப்பட்ட சிமெண்ட்
3. ஆக்ஸிஜன் ஏற்றப்பட்ட தாமிரம்
4. சணல் கயிறு

**Options :**

485584144645. 1  
485584144646. 2  
485584144647. 3  
485584144648. 4

**Question Number : 412 Question Id : 48558436162 Question Type : MCQ Option Shuffling : No Is Question Mandatory : No Calculator : None Response Time : N.A Think Time : N.A Minimum Instruction Time : 0**

**Correct Marks : 5 Wrong Marks : 1**


**Question Key Details :**

Key	Value
Comprehension	Comp1



کریں گے۔

1959ء میں تیار کیا گیا تھا۔ یہاں چار لوگوں کو ایک چٹان بٹاتے ہوئے دکھایا ہے جو تیسرے میں انسانی محنت کی اہمیت اور شرکت کو پیش کرتا ہے۔ ناقابل تسخیر مرد قدرت کے ساتھ کشمی لڑ رہا ہے، سختی سے، جو بغلی طور پر اور طاقت کے ساتھ۔ یہ مزدوروں کی تصویر قدرت کے اصولوں کے خلاف ہے۔ 19 ویں صدی کی ایک مشہور رومانٹک چیز ہے۔ اس مجسمے میں انسانی جسمانی طاقت کے ساتھ ایک تاشیے والی چٹان کو دکھایا گیا ہے۔ یہ انسانی مجسمہ اس طریقہ سے نصب کیا گیا ہے تاکہ ہمارے اندر دیکھنے کا احساس پیدا ہو۔ ناظرین اس کو دیکھنے کے لئے ہر طرف سے متوجہ ہوں۔



یہ مجسمہ 1959ء میں تیار کیا گیا تھا۔ یہاں چار لوگوں کو ایک چٹان بٹاتے ہوئے دکھایا ہے جو تیسرے میں انسانی محنت کی اہمیت اور شرکت کو پیش کرتا ہے۔ ناقابل تسخیر مرد قدرت کے ساتھ کشمی لڑ رہا ہے، سختی سے، جو بغلی طور پر اور طاقت کے ساتھ۔ یہ مزدوروں کی تصویر قدرت کے اصولوں کے خلاف ہے۔ 19 ویں صدی کی ایک مشہور رومانٹک چیز ہے۔ اس مجسمے میں انسانی جسمانی طاقت کے ساتھ ایک تاشیے والی چٹان کو دکھایا گیا ہے۔ یہ انسانی مجسمہ اس طریقہ سے نصب کیا گیا ہے تاکہ ہمارے اندر دیکھنے کا احساس پیدا ہو۔ ناظرین اس کو دیکھنے کے لئے ہر طرف سے متوجہ ہوں۔

1. کونسا مجسمہ ہے
2. کونسا مجسمہ ہے
3. کونسا مجسمہ ہے
4. کونسا مجسمہ ہے

Options :

485584144645. 1
485584144646. 2
485584144647. 3
485584144648. 4

Question Number : 412 Question Id : 48558436162 Question Type : MCQ Option Shuffling : No Is Question Mandatory : No Calculator : None Response Time : N.A Think Time : N.A Minimum Instruction Time : 0

Correct Marks : 5 Wrong Marks : 1

Question Key Details :

Key	Value
Comprehension	Comp1

قیاس کو دھیان سے پڑھ کر تصویر کا مشاہدہ کریں اور سوالات کا جواب لکھیں :

یہ مجسمہ 1959ء میں تیار کیا گیا تھا۔ یہاں چار لوگوں کو ایک چٹان بٹاتے ہوئے دکھایا ہے جو تیسرے میں انسانی محنت کی اہمیت اور شرکت کو پیش کرتا ہے۔ ناقابل تسخیر مرد قدرت کے ساتھ کشمی لڑ رہا ہے، سختی سے، جو بغلی طور پر اور طاقت کے ساتھ۔ یہ مزدوروں کی تصویر قدرت کے اصولوں کے خلاف ہے۔ 19 ویں صدی کی ایک مشہور رومانٹک چیز ہے۔ اس مجسمے میں انسانی جسمانی طاقت کے ساتھ ایک تاشیے والی چٹان کو دکھایا گیا ہے۔ یہ انسانی مجسمہ اس طریقہ سے نصب کیا گیا ہے تاکہ ہمارے اندر دیکھنے کا احساس پیدا ہو۔ ناظرین اس کو دیکھنے کے لئے ہر طرف سے متوجہ ہوں۔

1. گانما اور سیمنٹ
2. کنکروں کے ساتھ ملا ہوا سیمنٹ
3. آکسیڈیز ٹائلا
4. ہینگ فلٹر

**Options :**

485584144645. 1
485584144646. 2
485584144647. 3
485584144648. 4


**Question Number : 413 Question Id : 48558436163 Question Type : MCQ Option Shuffling : No Is Question Mandatory : No Calculator : None Response Time : N.A Think Time : N.A Minimum Instruction Time : 0**

**Correct Marks : 5 Wrong Marks : 1**

**Question Key Details :**

Key	Value
Comprehension	Comp1

Observe the image and answer the following question.



Mention the subject of the sculpture based on the given image?

1. Helplessness and cries fall on destitute family
2. Goodness of the wood
3. Santlal man digging gold
4. Human labour in Nation building

**Options :**

485584144649. 1
485584144650. 2
485584144651. 3
485584144652. 4

**Question Number : 413 Question Id : 48558436163 Question Type : MCQ Option Shuffling : No Is Question Mandatory : No Calculator : None Response Time : N.A Think Time : N.A Minimum Instruction Time : 0**

**Correct Marks : 5 Wrong Marks : 1**

**Question Key Details :**

Key	Value
Comprehension	Comp1

नीचे आकृति देखकर निम्न प्रश्न का उत्तर दीजिए:



विषय बताइए जिस पर यह मूर्तिकला आधारित है?

1. असहाय और रोते हुए वंचित परिवार
2. लकड़ी की विशेषता / अच्छाई
3. संथाल व्यक्ति सोना खोद रहा है
4. राष्ट्र निर्माण में मानव श्रम

Options :

485584144649. 1
485584144650. 2
485584144651. 3
485584144652. 4

Question Number : 413 Question Id : 48558436163 Question Type : MCQ Option Shuffling : No Is Question Mandatory : No Calculator : None Response Time : N.A Think Time : N.A Minimum Instruction Time : 0

Correct Marks : 5 Wrong Marks : 1

Question Key Details :

Key	Value
Comprehension	Comp1

এই ছবি খন ভানদৰে লক্ষ্য কৰা আৰু তলত দিয়া প্ৰশ্নৰ উত্তৰ দিয়া ।



স্থাপত্যটোৰ বিষয়বস্তুটো কি ?

1. অসহায় আৰু কান্দি থকা অৱস্থাত এটা পৰিয়াল
2. কাঠৰ সত্ততা
3. সোন খান্দি থকা সম্ভাল লোক
4. জাতীয়তাবাদ নিৰ্মানৰত মানৱ শ্ৰমিক

**Options :**

485584144649. 1  
485584144650. 2  
485584144651. 3  
485584144652. 4

Question Number : 413 Question Id : 48558436163 Question Type : MCQ Option Shuffling : No Is Question Mandatory : No Calculator : None  
Response Time : N.A Think Time : N.A Minimum Instruction Time : 0

Correct Marks : 5 Wrong Marks : 1

**Question Key Details :**

Key	Value
Comprehension	Comp1

নীচের অনুচ্ছেদটি পড়। চিত্রটি ভাল করে লক্ষ্য করে প্রশ্নের উত্তর দাও।  
এটি একটি স্থাপত্য যেটি ১৮৫৯-এ খোদাই করা হয়েছিল। এটাতে দেখা যাচ্ছে চারজন মানুষ একটা প্রস্তরখণ্ডকে সরাবার চেষ্টা করছে। একটা রাষ্ট্র গড়ে তোলার জন্য মানুষের শ্রমের মূল্য ও প্রয়োজনীয়তাকে বোঝানো হয়েছে। অদমা পুরুষেরা প্রকৃতির সাথে মিলনযুক্ত করছে। একটা সর্বজনবিদিত রোমান্টিক বিষয় উনিশ শতকের এই স্থাপত্যে বর্ণিত হয়েছে। একটা কায়িকশ্রমের চরম নিদর্শন যা একটা অনড়, বৃহৎ, অনমনীয়, অনড় প্রস্তরখণ্ডকে সরাতে চাইছে। মানব শরীরের এমন নিখুঁত ভাজ সৃষ্টি করা হয়েছে যাতে দর্শকরা সবদিক থেকে স্থাপত্যটি খুঁটিয়ে দেখতে আগ্রহী হয়।



স্থাপত্যের বিষয়টি আধারিত হয়েছে ?

1. সহায় সম্বলহীন পরিবারের অসহায়তা এবং কান্না
2. কাঠের উপযোগীতা
3. সাপ্তাহিক মানুষ সোনা খনন করছে
4. রাষ্ট্রনির্মাণে মানুষের শ্রম

**Options :**

485584144649. 1  
485584144650. 2  
485584144651. 3  
485584144652. 4

Question Number : 413 Question Id : 48558436163 Question Type : MCQ Option Shuffling : No Is Question Mandatory : No Calculator : None  
Response Time : N.A Think Time : N.A Minimum Instruction Time : 0

Correct Marks : 5 Wrong Marks : 1

**Question Key Details :**

Key	Value
Comprehension	Comp1

નીચે આપેલા ફકરાને વાંચીને, આકૃતિ જોઈ આપેલા પ્રશ્નોના જવાબ આપો.

આ એ શિલ્પ છે, જે 1959 માં બનાવવામાં આવ્યું હતું. તે બતાવે છે કે ચાર માણસો એક ખડકને ખસેડવાનો પ્રયાસ કરી રહ્યા છે. જે રાષ્ટ્ર નિર્માણમાં માનવ શ્રમના મહત્વ અને યોગદાનને રજૂ કરે છે. અજેય માણસો કુદરત સાથે કુસ્તી કરી રહ્યા છે. હઠીલા, અનિશ્ચિત અને શક્તિશાળી. તે કુદરતના તત્વો સામે શ્રમની દાખી છે જે ઓગણીસમી સદીની જાણીતી રોમેન્ટિક વિષય છે. શિલ્પકારો એક વિશાળ, સ્થાવર અડકને ગુમાવવાના આત્યંતિક શારીરિક પ્રયત્નોનું ચિત્રણ કર્યું છે. માનવ આકૃતિઓ એવી રીતે સ્થાપિત કરવામાં આવે છે જે આપણામાં જિજ્ઞાસા પેદા કરે છે. કારણ કે તે દર્શકોને વ્યારે બાજુથી જોવા માટે આકર્ષે છે.



આપેલ શિલ્પકૃતિ કયા વિષય પર આધારિત છે ?

1. નિરાધાર પરિવારની લાયારી અને ચીસ છે.
2. લાકડાની ગુણવત્તા
3. સોનું ખોદતાં સંઘાલ માનવી
4. રાષ્ટ્ર નિર્માણમાં માનવીય શ્રમ

Options :

485584144649. 1  
485584144650. 2  
485584144651. 3  
485584144652. 4

Question Number : 413 Question Id : 48558436163 Question Type : MCQ Option Shuffling : No Is Question Mandatory : No Calculator : None Response Time : N.A Think Time : N.A Minimum Instruction Time : 0

Correct Marks : 5 Wrong Marks : 1

Question Key Details :

Key	Value
Comprehension	Comp1

ಕೆಳಗಿನ ವಾಕ್ಯಪುಂಜವನ್ನು ಓದಿ ಮತ್ತು ಚಿತ್ರವನ್ನು ವೀಕ್ಷಿಸಿ ಮತ್ತು ಕೆಳಗಿನ ಪ್ರಶ್ನೆಗಳನ್ನು ಉತ್ತರಿಸಿ.



ನೀಡಿರುವ ಚಿತ್ರದ ಆಧಾರದ ಮೇಲೆ ಶಿಲ್ಪಕಲಾ ವಿಷಯವನ್ನು ತಿಳಿಸಿ

1. ಅಸಹಾಯಕತೆ ಮತ್ತು ನಿರ್ಗತಿಕ ಕುಟುಂಬದ ಮೇಲೆ ಕೂಗಾಡುವುದು
2. ಕಟ್ಟಿಗೆಯ ಒಳ್ಳೆತನ
3. ಸಂಧ್ಯಾಲ್ ಮಾನವ ಚಿನ್ನ ಅಗೆಯುತ್ತಿರುವುದು
4. ದೇಶ ನಿರ್ಮಾಣದಲ್ಲಿ ಮಾನವರ ಪರಿಶ್ರಮ

**Options :**


485584144649. 1  
485584144650. 2  
485584144651. 3  
485584144652. 4

Question Number : 413 Question Id : 48558436163 Question Type : MCQ Option Shuffling : No Is Question Mandatory : No Calculator : None  
Response Time : N.A Think Time : N.A Minimum Instruction Time : 0

Correct Marks : 5 Wrong Marks : 1

Question Key Details :

Key	Value
Comprehension	Compl



താഴെ നൽകിയിട്ടുള്ളവയിൽ നിന്നും ഈ ശില്പത്തിന്റെ പ്രതിപാദ്യ വിഷയം ഏതാണെന്ന് നിർണ്ണയിക്കുക ?

1. നിരാലംബ കുടുംബത്തിന്റെ കർച്ചിലും, നിസ്സഹയാവസ്ഥയും
2. മരത്തിന്റെ നന്മകൾ
3. സ്വർണ്ണം കൃഷി ചെയ്യുവാനുപയോഗിക്കുന്ന സാമ്പത്തിക മനുഷ്യൻ
4. മദഗാസിൻമാണത്തിനുള്ള മനുഷ്യ പ്രയത്നം

**Options :**

- 485584144649. 1
- 485584144650. 2
- 485584144651. 3
- 485584144652. 4

**Question Number : 413 Question Id : 48558436163 Question Type : MCQ Option Shuffling : No Is Question Mandatory : No Calculator : None Response Time : N.A Think Time : N.A Minimum Instruction Time : 0**

**Correct Marks : 5 Wrong Marks : 1**

**Question Key Details :**

Key	Value
Comprehension	Comp1

पुढील उतारा व हे प्रतिमा पाहून प्रश्नांची उत्तरे लिहा.

1959 मध्ये बनवलेल्या या शिल्पात चार आकृत्या ऑडक्याने मोठा खडक हलवण्याचा प्रयत्न करत असताना अडळतात. राष्ट्र उभारणीत मानवी श्रमाचे महत्त्व प्रतिबिंबित होताना व त्या श्रमाचे योगदान असल्याचे दिसते. मनुष्य अजिंक्य निसर्गाच्या शातकातील एक प्रसिध्द रोमांचकारी विषय मॉडला आहे. शिल्पकाराने मोठ्या प्रमाणात अचल खडक सैल करण्याचा प्रयत्न दाखवला आहे. मानवी आकृत्या अश्या प्रकारे स्थित केल्या आहेत ज्यामुळे दर्शकांचे कुतुहल जागृत होऊन ती सर्व बाजूने शिल्प पाहण्यासाठी प्रवृत्त होतो.



हे शिल्प खाली दिलेल्या कोणत्या विषयावर आधारित आहे?

1. पीडित कुटुंबाचे असहाय्यता आणि विफल रडणे
2. लाकडाची देवता
3. सोने खोदणारा संथाल माणूस
4. राष्ट्र बांधणी साठी मानवी श्रम

**Options :**

485584144649. 1  
485584144650. 2  
485584144651. 3  
485584144652. 4

**Question Number : 413 Question Id : 48558436163 Question Type : MCQ Option Shuffling : No Is Question Mandatory : No Calculator : None Response Time : N.A Think Time : N.A Minimum Instruction Time : 0**

**Correct Marks : 5 Wrong Marks : 1**

**Question Key Details :**

Key	Value
Comprehension	Compl



ବିପ୍ଳବୀୟତା ଅନୁଭବର ପଦକୁ ଏବଂ ଦୁଃଖକୁ ଦେଖି ନିମ୍ନ ଚିତ୍ରର ପିଆକୁ

"ଏହି ମୂର୍ତ୍ତି 1959ରେ ଗଢ଼ା ହୋଇଥିଲା, ଏହା ଗଣତନ୍ତ୍ର ପ୍ରଚାରକୁ ଏକ ପଥର ଚଳାଚଳକୁ ଦେଖା କରୁଥିବା ଦେଖାଏ, ଗାନ୍ଧି ଭାବନାରେ ମାନବ ଶ୍ରମର ସ୍ତୂପର ଏବଂ ଅବଦାନକୁ ଦର୍ଶାଏ। ଅବିସ୍ମରଣୀୟ ପୁରୁଷମାନେ ପ୍ରକୃତି ସହିତ ସଂଘର୍ଷ କରୁଛନ୍ତି। ଅଧିକିତ୍ତ ଏବଂ ଶକ୍ତିଶାଳୀ। ଏହା ପ୍ରକୃତିର ଉପାଦାନ ସୃଷ୍ଟିକରିବାରେ ଶ୍ରମର ଚିତ୍ର 19 ଶତାବ୍ଦୀର ଏକ କଣ୍ଠାସୁଖ ଏବଂ ଗୋମାଞ୍ଜର ବିଷୟ। ଶିଳ୍ପୀ ଏକ ବିଭୀତ ଅଭାବର ପଥରକୁ ସୂତ୍ର କରିବାକୁ ଦରମା ଶାନ୍ତାଧିକ ପ୍ରୟାସକୁ ଚିତ୍ରଣ କରିଛନ୍ତି। ମାନବ ଚିତ୍ର ସୃଷ୍ଟିର ଏପରି ଭାବରେ ସଂଗଠିତ ହୋଇଛି ଯାହା ଆମ ଭିତରେ ଏକ ଜରି ସୃଷ୍ଟି କରିବାକୁ ଦର୍ଶକମାନେ ଏହାକୁ ସବୁ ବିଷୟ ଦେଖିବା ପାଇଁ ଦର୍ଶକକୁ ଆକର୍ଷିତ କରନ୍ତି।



Mention the subject of the sculpture based on the given?

1. ଅସହଜ ଏବଂ ବଳିଷ୍ଠ ପରିବାର ବାନ୍ଧଣା
2. ରୁଚନୋପ ଶିଳ୍ପ ଏବଂ ଦୁଃଖ
3. ସାତାଳ ପୁରୁଷ ସୁନା ଖୋଳୁଛନ୍ତି
4. ସୁଧମାନ ଲୋକର ଜନ ଦେଶନ ଚିତ୍ରଣ

Options :

- 485584144649. 1
- 485584144650. 2
- 485584144651. 3
- 485584144652. 4

Question Number : 413 Question Id : 48558436163 Question Type : MCQ Option Shuffling : No Is Question Mandatory : No Calculator : None Response Time : N.A Think Time : N.A Minimum Instruction Time : 0

Correct Marks : 5 Wrong Marks : 1

Question Key Details :

Key	Value
Comprehension	Comp1

ਇਹ ਮੂਰਤੀ 1959 ਵਿੱਚ ਤਿਆਰ ਕੀਤੀ ਗਈ। ਇਸ ਵਿੱਚ ਚਾਰ ਆਦਮੀ ਇੱਕ ਚਟਾਨ ਨੂੰ ਹਿਲਾਉਣ ਦੀ ਕੋਸ਼ਿਸ਼ ਕਰਦੇ ਦਿਖਾਈ ਦੇ ਰਹੇ ਹਨ, ਰਾਸ਼ਟਰੀ ਨਿਰਮਾਣ ਵਿੱਚ ਮਹੱਤਤਾ ਅਤੇ ਯੋਗਦਾਨ ਦੀ ਪੇਸ਼ਕਾਰੀ ਹੈ। ਅਸਿੱਧ ਆਦਮੀ ਕੁੱਝ ਆਦਮੀਆਂ ਵਾਂਗ ਅਣਥੱਕ ਅਤੇ ਤਾਕਤਵਰ ਚੰਗੇ ਨਾਲ ਕੁਦਰਤ ਨਾਲ ਕਸਰੀ ਕਰ ਰਹੇ ਹਨ। ਇਹ ਕੁਦਰਤ ਦੇ ਤੱਤਾਂ ਦੇ ਵਿਰੁੱਧ ਕਿਰਤ ਦਾ ਚਿੰਨ੍ਹ ਹੈ, ਇਹ 19ਵੀਂ ਸਦੀ ਦਾ ਇੱਕ ਮਸ਼ਹੂਰ ਰੋਮਾਂਟਿਕ ਵਿਸ਼ਾ ਹੈ। ਮੂਰਤੀਕਾਰ ਨੇ ਇੱਕ ਵਿਚਲ ਅਚੱਲ ਚਟਾਨ ਨੂੰ ਹਟਾਉਣ ਦੇ ਅਤਿਅੰਤ ਸਰੀਰਿਕ ਯਤਨ ਨੂੰ ਦਰਸਾਇਆ ਹੈ। ਮਨੁੱਖੀ ਚਿੰਤਨ ਨੂੰ ਇਸ ਤਰੀਕੇ ਨਾਲ ਸੰਕੇਪਿਤ ਕੀਤਾ ਜਾਂਦਾ ਹੈ ਜੋ ਸਾਡੇ ਵਿੱਚ ਇੱਕ ਉਤਲੇਕਤਾ ਪੈਦਾ ਕਰਦਾ ਅਤੇ ਦਰਸਕਾਂ ਨੂੰ ਹੋਰ ਪਾਸਿਉਂ ਦੇਖਣ ਲਈ ਆਕਰਸ਼ਿਤ ਕਰਦੇ ਹਨ।



ਹੇਠ ਦਿੱਤਿਆਂ ਵਿੱਚੋਂ ਮੂਰਤੀ ਕਿਸ ਵਿਸ਼ੇ ਤੇ ਆਧਾਰਿਤ ਹੈ?

1. ਬੇਦਸ਼ੀ ਅਤੇ ਰੋਣਾ ਬੇਸਹਾਰਾ ਪਰਿਵਾਰ ਤੇ ਡਿੱਗਦਾ ਹੈ।
2. ਲੋਕਤ ਦੀ ਚੰਗਿਆਈ
3. ਸੰਥਲ ਆਦਮੀ ਸੈਨੇ ਦੀ ਖੁਦਾਈ ਕਰਦਾ
4. ਰਾਸ਼ਟਰੀ ਨਿਰਮਾਣ ਵਿੱਚ ਮਨੁੱਖੀ ਕਿਰਤ

**Options :**

485584144649. 1  
 485584144650. 2  
 485584144651. 3  
 485584144652. 4

**Question Number :** 413 **Question Id :** 48558436163 **Question Type :** MCQ **Option Shuffling :** No **Is Question Mandatory :** No **Calculator :** None **Response Time :** N.A **Think Time :** N.A **Minimum Instruction Time :** 0

**Correct Marks :** 5 **Wrong Marks :** 1

**Question Key Details :**

Key	Value
Comprehension	Comp1



கொடுக்கப்பட்டவைகளிலிருந்து சிறுபத்தின் பாடப்பொருளை குறிப்பிடுக:

1. கைவிடப்பட்ட குடும்பம் மீது விழும் ஆதரவற்ற தன்மையும் அவலங்களும்
2. மரத்தின் நன்மை
3. சாந்தள மனிதன்/ ஆண் தங்கத்தை வெட்டி எடுத்தல்
4. நாட்டின் கட்டுமானத்தில் மனித வலிகளின் பங்கு

**Options :**

- 485584144649. 1
- 485584144650. 2
- 485584144651. 3
- 485584144652. 4

Question Number : 413 Question Id : 48558436163 Question Type : MCQ Option Shuffling : No Is Question Mandatory : No Calculator : None  
Response Time : N.A Think Time : N.A Minimum Instruction Time : 0

Correct Marks : 5 Wrong Marks : 1

Question Key Details :

Key	Value
Comprehension	Compl

کَردی گدڑبھآگآنی چدیوی اذکڑدی اونی چلآنی گمونیسٹآ ترووآتی ٱرآلکس سمدآآنآ رآیآدی.

ادی 1959 لآ چككس شلآ. ادی نلآگورؤ وركلؤلؤ اء رآیآنی كدیلآچدآنیك ٱرآلآسٹلؤنلؤلؤ چآسٹلؤدی. ادی آآتئ نلرآآنلؤلؤ مآنآ ٱرآمكول سآل ٱرآمؤآلآتسؤ موریؤ سہآرآنی وٱرلؤدی. آوچلنآ چآلآسئ مئسؤلؤ ٱرآلآتئ مئدیگآ ٱلؤدلگآ. نلرلؤنآ، آككسآنآ كؤسئ ٱدؤلؤنآرؤ. ادی 19آ شلآلؤلؤ بآگآ آللسئ كآآلؤك مئسئ وٱلؤن آوئس ٱرآلآتئ لؤكؤ آنآل كؤسآ چآسٹلؤ شرم لؤكؤ ٱرآلآبآن. اء آآرئ، شلر مئسئ رآیآنی ویددیؤدآنیك وٱرلآت مئسئ شآرلرل شرمسؤ شلرل چلآككریآدؤ. وكككولؤگآ مئسئ آلؤكككسؤ ٱآندئ ویدرگآ مئسؤلؤلؤ چلآلآسؤ چلآككریآچدآن ولل ادی آنی لؤلؤلؤنؤلؤ چآ سؤلآ وكككولؤلؤ آكككسٹلؤدی.



ادی وٱ وٱلؤآنیك سآنآرلآچدئ شلرل مئسؤ چآسٹلؤدی

1. نلرلؤنآ شلرل لؤلؤ ٱدؤلؤ ٱدی اونی دككؤلآسئ كؤلؤنآ
2. چكك لؤكؤ گآسٹلؤن
3. سآنآل مئسئ بآگآرآنی آلؤد
4. آآتئ نلرآآنلؤلؤ مآنآ ٱرآمكولؤ

Options :

485584144649. 1
485584144650. 2
485584144651. 3
485584144652. 4

Question Number : 413 Question Id : 48558436163 Question Type : MCQ Option Shuffling : No Is Question Mandatory : No Calculator : None Response Time : N.A Think Time : N.A Minimum Instruction Time : 0

Correct Marks : 5 Wrong Marks : 1

Question Key Details :

Key	Value
Comprehension	Comp1

لقاس كو دهيان سے يڑھ كر تصوير كا مشابده كريں اور سوالآت كا جواب نالئ كريں :

به مجسمه 1959ء ميں تيار كيا گيا تھا. بهآ چار لوگؤں كو ايك چآن بآتئ لؤلؤ دككيا به آو لئس كئ تعمير ميں لئسئ محنت كئ ابيت اور شركت كو بهس كر لآ به. ناقابل لسخير مرد قرت كئ سائو كئسئ لؤر آ به، سئسئ سے، آو لئسئ طور پر اور طاقت كئ سائو . به مزدورؤں كئ تصوير قرت كئ اهلؤنؤں كئ آلآف به. 19 وئ سئسئ كئ ايك مشهور رومائلك چور به. اس مجسمئ ميں لئسئ جسمائئ طاقت كئ سائو ايك نالئسئ والئ چآن كو دككيا گيا به. به لئسئ مجسمه اس طرؤق سے نصب كيا گيا به ناكه بهآرے انتر دككئسئ كا لئسئ بناؤ . ناظرين اس كو دككئسئ كئ لئسئ پر طرف سے متوكه لؤں.

محکمہ کے موضوع کا نثر کریں جو نئے نئے تصویری بیان پر مبنی ہے ؟

1. اسے ہسی اور چرخ و پتھر سہارا خاندانوں پر نازل ہوتی ہے
2. لکڑی کی خوبی
3. ستھال آدی واسی سونا گھوڑا رہا ہے
4. دیش کی تعمیر میں انسانی مزدور

Options :

485584144649. 1
485584144650. 2
485584144651. 3
485584144652. 4


Question Number : 414 Question Id : 48558436164 Question Type : MCQ Option Shuffling : No Is Question Mandatory : No Calculator : None Response Time : N.A Think Time : N.A Minimum Instruction Time : 0

Correct Marks : 5 Wrong Marks : 1

Question Key Details :

Key	Value
Comprehension	Comp1

Observe the image and answer the following question.



Identify the style of artwork which the sculptor had used.

1. Modern Art
2. Abstract Art
3. Pop Art
4. Folk Art

Options :

485584144653. 1
485584144654. 2
485584144655. 3
485584144656. 4

Question Number : 414 Question Id : 48558436164 Question Type : MCQ Option Shuffling : No Is Question Mandatory : No Calculator : None Response Time : N.A Think Time : N.A Minimum Instruction Time : 0

Correct Marks : 5 Wrong Marks : 1

Question Key Details :

Key	Value
Comprehension	Comp1

नीचे आकृति देखकर निम्न प्रश्न का उत्तर दीजिए:



शैली को बताइए, जिसका मूर्तिकार ने उपयोग किया है:

1. आधुनिक कला
2. अमूर्त कला
3. पॉप कला
4. लोक कला

Options :

485584144653. 1  
485584144654. 2  
485584144655. 3  
485584144656. 4

Question Number : 414 Question Id : 48558436164 Question Type : MCQ Option Shuffling : No Is Question Mandatory : No Calculator : None Response Time : N.A Think Time : N.A Minimum Instruction Time : 0

Correct Marks : 5 Wrong Marks : 1

Question Key Details :

Key	Value
Comprehension	Comp1

এই ছবি খন ভানদৰে নক্ষা কৰা আৰু তলত দিয়া প্ৰশ্নৰ উত্তৰ দিয়া ।



স্থাপত্যটোত কোনটো কলা ব্যৱহাৰ কৰিছে ?

1. মডাৰ্ন কলা
2. এবষ্ট্ৰেক্ট কলা
3. পপ কলা
4. লোক কলা

**Options :**

485584144653. 1  
485584144654. 2  
485584144655. 3  
485584144656. 4

Question Number : 414 Question Id : 48558436164 Question Type : MCQ Option Shuffling : No Is Question Mandatory : No Calculator : None  
Response Time : N.A Think Time : N.A Minimum Instruction Time : 0

Correct Marks : 5 Wrong Marks : 1

**Question Key Details :**

Key	Value
Comprehension	Comp1

নীচের অনুচ্ছেদটি পড়। চিত্রটি ভাল করে লক্ষ্য করে প্রশ্নের উত্তর দাও।  
এটি একটি স্থাপত্য যেটি ১৮৫৯-এ খোদাই করা হয়েছিল। এটাতে দেখা যাচ্ছে চারজন মানুষ একটা প্রস্তরখণ্ডকে সরাবার চেষ্টা করছে। একটা রাষ্ট্র গড়ে তোলার জন্য মানুষের শ্রমের মূল্য ও প্রয়োজনীয়তাকে বোঝানো হয়েছে। অদমা পুরুষেরা প্রকৃতির সাথে মিলনযুক্ত করছে। একটা সর্বজনবিদিত রোমান্টিক বিষয় উনিশ শতকের এই স্থাপত্যে বর্ণিত হয়েছে। একটা কায়িকশ্রমের চরম নিদর্শন যা একটা অনড়, বৃহৎ, অনমনীয়, অনড় প্রস্তরখণ্ডকে সরাতে চাইছে। মানব শরীরের এমন নিখুঁত ভাজ সৃষ্টি করা হয়েছে যাতে দর্শকরা সবদিক থেকে স্থাপত্যটি খুঁটিয়ে দেখতে আগ্রহী হয়।



কোন আর্টওয়ার্ক বা চিত্রকর্ম এই স্থাপত্যে ব্যবহৃত হয়েছে।

1. মডার্ন আর্ট ( আধুনিক চিত্রকলা )
2. বিমূর্ত চিত্রকলা ( আবস্ট্রাক্ট আর্ট )
3. পপ আর্ট
4. লোকশিল্প / চিত্র

**Options :**

485584144653. 1  
485584144654. 2  
485584144655. 3  
485584144656. 4

Question Number : 414 Question Id : 48558436164 Question Type : MCQ Option Shuffling : No Is Question Mandatory : No Calculator : None  
Response Time : N.A Think Time : N.A Minimum Instruction Time : 0

Correct Marks : 5 Wrong Marks : 1

**Question Key Details :**

Key	Value
Comprehension	Comp1

નીચે આપેલા ફકરાને વાંચીને, આકૃતિ જોઈ આપેલા પ્રશ્નોના જવાબ આપો.

આ એ શિલ્પ છે, જે 1959 માં બનાવવામાં આવ્યું હતું. તે બતાવે છે કે ચાર માણસો એક ખડકને ખસેડવાનો પ્રયાસ કરી રહ્યા છે. જે રાષ્ટ્ર નિર્માણમાં માનવ શ્રમના મહત્વ અને યોગદાનને રજૂ કરે છે. અજેય માણસો કુદરત સાથે કુસ્તી કરી રહ્યા છે. હઠીલા, અનિશ્ચિત અને શક્તિશાળી. તે કુદરતના તત્વો સામે શ્રમની દબાવે છે જે ઓગણીસમી સદીની જાણીતી રોમેન્ટિક વિષય છે. શિલ્પકારો એક વિશાળ, સ્થાવર અડકને ગુમાવવાના આત્યંતિક શારીરિક પ્રયત્નોનું ચિત્રણ કર્યું છે. માનવ આકૃતિઓ એવી રીતે સ્થાપિત કરવામાં આવે છે જે આપણામાં જિજ્ઞાસા પેદા કરે છે. કારણ કે તે દર્શકોને વ્યારે બાજુથી જોવા માટે આકર્ષે છે.



શિલ્પકારે વાપરેલ કલાકારીની શૈલી જણાવો.

1. આધુનિક કલા
2. અમૂર્ત કલા
3. પૌપ કલા
4. લોક કલા

**Options :**

485584144653. 1
485584144654. 2
485584144655. 3
485584144656. 4

Question Number : 414 Question Id : 48558436164 Question Type : MCQ Option Shuffling : No Is Question Mandatory : No Calculator : None Response Time : N.A Think Time : N.A Minimum Instruction Time : 0

Correct Marks : 5 Wrong Marks : 1

Question Key Details :

Key	Value
Comprehension	Comp1



ಕೆಳಗಿನ ವಾಕ್ಯಪುಂಜವನ್ನು ಓದಿ ಮತ್ತು ಚಿತ್ರವನ್ನು ವೀಕ್ಷಿಸಿ ಮತ್ತು ಕೆಳಗಿನ ಪ್ರಶ್ನೆಗಳನ್ನು ಉತ್ತರಿಸಿ.



ಶಿಲ್ಪಕಲಾಕಾರ ಬಳಸಿದ ಕಲಾಕಾರ್ಯದ ಶೈಲಿಯನ್ನು ತಿಳಿಸಿ.

1. ಆಧುನಿಕ ಕಲೆ
2. ಮೂರ್ತ ಕಲೆ
3. ಪಾಪ್ ಕಲೆ
4. ಜಾನಪದ ಕಲೆ

**Options :**

485584144653. 1  
485584144654. 2  
485584144655. 3  
485584144656. 4

**Question Number : 414 Question Id : 48558436164 Question Type : MCQ Option Shuffling : No Is Question Mandatory : No Calculator : None Response Time : N.A Think Time : N.A Minimum Instruction Time : 0**

**Correct Marks : 5 Wrong Marks : 1**

**Question Key Details :**

Key	Value
Comprehension	Comp1



ഈ ശില്പത്തിൽ ഉപയോഗിച്ചിരിക്കുന്ന കലാശൈലി ഏതാണ് ?

1. ആധുനിക കല
2. അമൂർത്ത കല
3. പോപ്പ് കല
4. നാടോടി കല

**Options :**

- 485584144653. 1
- 485584144654. 2
- 485584144655. 3
- 485584144656. 4

**Question Number : 414 Question Id : 48558436164 Question Type : MCQ Option Shuffling : No Is Question Mandatory : No Calculator : None Response Time : N.A Think Time : N.A Minimum Instruction Time : 0**

**Correct Marks : 5 Wrong Marks : 1**

**Question Key Details :**

Key	Value
Comprehension	Compl

पुढील उतारा व हे प्रतिमा पाहून प्रश्नांची उत्तरे लिहा.

1959 मध्ये बनवलेल्या या शिल्पात चार आकृत्या ऑडक्याने मोठा खडक हलवण्याचा प्रयत्न करत असताना अदृच्छतात. राष्ट्र उभारणीत मानवी श्रमाचे महत्त्व प्रतिबिंबित होताना व त्या श्रमाचे योगदान असल्याचे दिसते. मनुष्य अजिंक्य निसर्गाच्या शातकातील एक प्रसिध्द रोमांचकारी विषय मांडला आहे. शिल्पकाराने मोठ्या प्रमाणात अचल खडक सैल करण्याचा प्रयत्न दाखवला आहे. मानवी आकृत्या अश्या प्रकारे स्थित केल्या आहेत ज्यामुळे दर्शकांचे कुतुहल, जागृत होऊन ती सर्व बाजूने शिल्प पाहण्यासाठी प्रवृत्त होतो.



या शिल्पात वापरलेल्या कला शैलीचा उल्लेख करा.

1. माडर्न आर्ट (आधुनिक कला)
2. अमूर्त कला
3. पॉप आर्ट (कला)
4. लोककला

**Options :**

485584144653. 1  
485584144654. 2  
485584144655. 3  
485584144656. 4

**Question Number : 414 Question Id : 48558436164 Question Type : MCQ Option Shuffling : No Is Question Mandatory : No Calculator : None Response Time : N.A Think Time : N.A Minimum Instruction Time : 0**

**Correct Marks : 5 Wrong Marks : 1**

**Question Key Details :**

Key	Value
Comprehension	Comp1

ବିଆହାରଣ୍ଡା ଅନୁଲେଖକ ପଦକୁ ଏବଂ ଦୁଃଖକୁ ଦେଖି ନିମ୍ନ ଚିତ୍ର ଚିତ୍ରଣ କରନ୍ତୁ

"ଏହି ମୂର୍ତ୍ତି 1959ରେ ଗଢ଼ା ହୋଇଥିଲା, ଏହା ଗାନ୍ଧିଜୀ ପୁରୁଷକୁ ଏକ ପଥର ଚକାଇବାକୁ ଦେଖା କରୁଥିବା ଦେଖାଏ, ଗାନ୍ଧିଜୀ ତାହାରେ ମାନବ ଶ୍ରମର ସ୍ତୂତ୍ତ୍ୱ ଏବଂ ଅବଦାନକୁ ଦର୍ଶାଏ। ଅବିସ୍ମରଣୀୟ ପୁରୁଷମାନେ ପ୍ରକୃତି ସହିତ ସଂଘର୍ଷ କରୁଛନ୍ତି। ଅଧିକିତ୍ତ୍ୱ ଏବଂ ଶକ୍ତିଶାଳି। ଏହା ପ୍ରକୃତିର ଉପାଦାନ ସୃଷ୍ଟିକ ବିରୁଦ୍ଧରେ ଶ୍ରମର ଚିତ୍ର 19 ଶତାବ୍ଦୀର ଏକ କଣ୍ଠାସୁଣୀ ଏବଂ ଗୋମାଞ୍ଜର ବିଷୟ। ଶିଳ୍ପୀ ଏକ ବିଭୀତ ଅଭାବର ପଥରକୁ ସୂତ୍ତ୍ୱ କରିବାକୁ ଦରମ ଶାନ୍ତାଧିକ ପ୍ରୟାସକୁ ଚିତ୍ରଣ କରିଛନ୍ତି। ମାନବ ଚିତ୍ର ସୃଷ୍ଟିର ଏପରି ଭାବରେ ସଂସ୍କାରିତ ହୋଇଛି ଯାହା ଆମ ଭିତରେ ଏକ ଜରି ସୃଷ୍ଟି କରିବାକୁ ଦର୍ଶକମାନେ ଏହାକୁ ସବୁ ବିଷୟ ଦେଖିବା ପାଇଁ ଦର୍ଶକକୁ ଆକର୍ଷିତ କରନ୍ତି।



Mention the style of artwork which the sculptor used.

1. ମନର୍ଣ୍ଣ ଆର୍ଟ
2. ଅବସ୍ଥାକୁ ଆର୍ଟ
3. ପଦ ଆର୍ଟ
4. ଗୋଟିଏ କଳା

Options :

- 485584144653. 1
- 485584144654. 2
- 485584144655. 3
- 485584144656. 4

Question Number : 414 Question Id : 48558436164 Question Type : MCQ Option Shuffling : No Is Question Mandatory : No Calculator : None Response Time : N.A Think Time : N.A Minimum Instruction Time : 0

Correct Marks : 5 Wrong Marks : 1

Question Key Details :

Key	Value
Comprehension	Compl

ਇਹ ਮੁਰਤੀ 1959 ਵਿੱਚ ਤਿਆਰ ਕੀਤੀ ਗਈ। ਇਸ ਵਿੱਚ ਚਾਰ ਆਦਮੀ ਇੱਕ ਚਟਾਨ ਨੂੰ ਹਿਲਾਉਣ ਦੀ ਕੋਸ਼ਿਸ਼ ਕਰਦੇ ਦਿਖਾਈ ਦੇ ਰਹੇ ਹਨ, ਰਾਸ਼ਟਰੀ ਨਿਰਮਾਣ ਵਿੱਚ ਮਹੱਤਤਾ ਅਤੇ ਯੋਗਦਾਨ ਦੀ ਪੇਸ਼ਕਾਰੀ ਹੈ। ਅਜਿਹੇ ਆਦਮੀ ਕੁੱਝ ਵੱਡੇ ਅਣਥੱਕ ਅਤੇ ਤਾਕਤਵਰ ਚੰਗੇ ਨਾਲ ਕੁਦਰਤ ਨਾਲ ਕੁਸ਼ਲੀ ਕਰ ਰਹੇ ਹਨ। ਇਹ ਕੁਦਰਤ ਦੇ ਤੱਤਾਂ ਦੇ ਵਿਰੁੱਧ ਕਿਰਪਾ ਦਾ ਚਿੰਨ੍ਹ ਹੈ, ਇਹ 19ਵੀਂ ਸਦੀ ਦਾ ਇੱਕ ਮਸ਼ਹੂਰ ਰੋਮਾਂਟਿਕ ਵਿਸ਼ਾ ਹੈ। ਮੁਰਤੀਕਾਰ ਨੇ ਇੱਕ ਵਿਚਲ ਅਚੱਲ ਚਟਾਨ ਨੂੰ ਹਟਾਉਣ ਦੇ ਅਤਿਅੰਤ ਸਰੀਰਿਕ ਯਤਨ ਨੂੰ ਦਰਸਾਇਆ ਹੈ। ਮਨੁੱਖੀ ਚਿੰਤਨ ਨੂੰ ਇਸ ਤਰੀਕੇ ਨਾਲ ਸੰਕੇਪਿਤ ਕੀਤਾ ਜਾਂਦਾ ਹੈ ਜੋ ਸਾਡੇ ਵਿੱਚ ਇੱਕ ਉਤਲੇਕਤਾ ਪੈਦਾ ਕਰਦਾ ਅਗਲੇ ਦਰਸਕਾਂ ਨੂੰ ਹੋਰ ਪਾਸਿਉਂ ਦੇਖਣ ਲਈ ਆਕਰਸ਼ਿਤ ਕਰਦੇ ਹਨ।



ਮੁਰਤੀਕਾਰ ਦੁਆਰਾ ਕਲਾਕਾਰੀ ਦੀ ਵਰਤੀ ਗਈ ਸ਼ੈਲੀ ਦਰਸਾਉਂਦੀ:

1. ਆਧੁਨਿਕ ਕਲਾ
2. ਸਰ ਕਲਾ
3. ਪੇਂਟ ਕਲਾ
4. ਲੋਕ ਕਲਾ

Options :

485584144653. 1  
 485584144654. 2  
 485584144655. 3  
 485584144656. 4

Question Number : 414 Question Id : 48558436164 Question Type : MCQ Option Shuffling : No Is Question Mandatory : No Calculator : None Response Time : N.A Think Time : N.A Minimum Instruction Time : 0

Correct Marks : 5 Wrong Marks : 1

Question Key Details :

Key	Value
Comprehension	Comp1



இந்தச் சிற்பி பயன்படுத்தி இருக்கும் கலை வேலையின் பாணியைக் குறிப்பிடுக:

1. நவீன கலை
2. அருவருவக் கலை
3. பாப் கலை
4. நாட்டுப்புறகலை

**Options :**

485584144653. 1  
485584144654. 2  
485584144655. 3  
485584144656. 4

**Question Number : 414 Question Id : 48558436164 Question Type : MCQ Option Shuffling : No Is Question Mandatory : No Calculator : None Response Time : N.A Think Time : N.A Minimum Instruction Time : 0**

**Correct Marks : 5 Wrong Marks : 1**

**Question Key Details :**

Key	Value
Comprehension	Comp1



فن پارہ کے اس انداز کا ذکر کریں جو مجسمہ ساز سے استعمال کیا ہے ؟

1. عوثرن آرٹ
2. تجریدی آرٹ
3. یوب آرٹ
4. ٹوک فن

**Options :**

485584144653. 1
485584144654. 2
485584144655. 3
485584144656. 4

**Question Number : 415 Question Id : 48558436165 Question Type : MCQ Option Shuffling : No Is Question Mandatory : No Calculator : None Response Time : N.A Think Time : N.A Minimum Instruction Time : 0**

**Correct Marks : 5 Wrong Marks : 1**

**Question Key Details :**

Key	Value
Comprehension	Comp1

Observe the image and answer the following question.



Identify the name of this contemporary sculpture.

1. Santlal Family
2. Triumph of Labour
3. Cries un- Heard
4. Ganesha

**Options :**

485584144657. 1
485584144658. 2
485584144659. 3
485584144660. 4

**Question Number : 415 Question Id : 48558436165 Question Type : MCQ Option Shuffling : No Is Question Mandatory : No Calculator : None Response Time : N.A Think Time : N.A Minimum Instruction Time : 0**

**Correct Marks : 5 Wrong Marks : 1**

**Question Key Details :**

Key	Value
Comprehension	Comp1



नीचे आकृति देखकर निम्न प्रश्न का उत्तर दीजिए:



इस समकालीन मूर्तिकला के नाम को पहचानिए:

1. संथाल परिवार
2. श्रम की विजय
3. क्राईस अन-हर्ट
4. गणेश

Options :

485584144657. 1  
485584144658. 2  
485584144659. 3  
485584144660. 4

Question Number : 415 Question Id : 48558436165 Question Type : MCQ Option Shuffling : No Is Question Mandatory : No Calculator : None Response Time : N.A Think Time : N.A Minimum Instruction Time : 0

Correct Marks : 5 Wrong Marks : 1

Question Key Details :

Key	Value
Comprehension	Comp1

এই ছবি খন ভালদৰে নক্ষ্য কৰা আৰু তনত দিয়া প্ৰশ্নৰ উত্তৰ দিয়া ।



সমসাময়িক স্থাপত্যৰ নামটো কি ?

1. সস্থাল পৰিয়াল
2. দ্বিফ্ অফ্ লোবৰ
3. ক্ৰাইচ্ -উন্- হাৰ্ড
4. গণেশ

**Options :**

485584144657. 1  
485584144658. 2  
485584144659. 3  
485584144660. 4

Question Number : 415 Question Id : 48558436165 Question Type : MCQ Option Shuffling : No Is Question Mandatory : No Calculator : None  
Response Time : N.A Think Time : N.A Minimum Instruction Time : 0

Correct Marks : 5 Wrong Marks : 1

Question Key Details :

Key	Value
Comprehension	Comp1

নীচের অনুচ্ছেদটি পড়। চিত্রটি ভাল করে লক্ষ্য করে প্রশ্নের উত্তর দাও।  
এটি একটি স্থাপত্য যেটি ১৮৫৯-এ খোদাই করা হয়েছিল। এটাতে দেখা যাচ্ছে চারজন মানুষ একটা প্রস্তরখণ্ডকে সরাবার চেষ্টা করছে। একটা রাষ্ট্র গড়ে তোলার জন্য মানুষের শ্রমের মূল্য ও প্রয়োজনীয়তাকে বোঝানো হয়েছে। অদমা পুরুষেরা প্রকৃতির সাথে মিল খুঁজছে। একটা সর্বজনবিদিত রোমান্টিক বিষয় উনিশ শতকের এই স্থাপত্যে বর্ণিত হয়েছে। একটা কায়িকশ্রমের চরম নিদর্শন যা একটা অনড়, বৃহৎ, অনমনীয়, অনড় প্রস্তরখণ্ডকে সরাতে চাইছে। মানব শরীরের এমন নিখুঁত ভাজ সৃষ্টি করা হয়েছে যাতে দর্শকরা সবদিক থেকে স্থাপত্যটি খুঁটিয়ে দেখতে আগ্রহী হয়।



সমসাময়িক স্থাপত্যের নাম হল -

1. সাপ্তাহিক ফ্যামিলি/পরিবার
2. শ্রমের জয়/ সাফল্য
3. অশ্রুত কামা ( অদেখা চোখের জন )
4. গণেশা/জ্ঞানেশা

**Options :**

485584144657. 1  
485584144658. 2  
485584144659. 3  
485584144660. 4

Question Number : 415 Question Id : 48558436165 Question Type : MCQ Option Shuffling : No Is Question Mandatory : No Calculator : None  
Response Time : N.A Think Time : N.A Minimum Instruction Time : 0

Correct Marks : 5 Wrong Marks : 1

Question Key Details :

Key	Value
Comprehension	Comp1

નીચે આપેલા ફકરાને વાંચીને, આકૃતિ જોઈ આપેલા પ્રશ્નોના જવાબ આપો.

આ એ શિલ્પ છે, જે 1959 માં બનાવવામાં આવ્યું હતું. તે બતાવે છે કે ચાર માણસો એક ખડકને ખસેડવાનો પ્રયાસ કરી રહ્યા છે. જે રાષ્ટ્ર નિર્માણમાં માનવ શ્રમના મહત્વ અને યોગદાનને રજૂ કરે છે. અજેય માણસો કુદરત સાથે કુસ્તી કરી રહ્યા છે. હઠીલા, અનિશ્ચિત અને શક્તિશાળી. તે કુદરતના તત્વો સામે શ્રમની દબાવી છે જે ઓગણીસમી સદીની જાણીતો રોમેન્ટિક વિષય છે. શિલ્પકારો એક વિશાળ, સ્થાવર અડકને ગુમાવવાના આત્યંતિક શારીરિક પ્રયત્નોનું ચિત્રણ કર્યું છે. માનવ આકૃતિઓ એવી રીતે સ્થાપિત કરવામાં આવે છે જે આપણામાં જિજ્ઞાસા પેદા કરે છે. કારણ કે તે દર્શકોને વ્યારે બાજુથી જોવા માટે આકર્ષે છે.



સમકાલીન શિલ્પકૃતિનું નામ ઓળખો.

1. સંથાલ પરિવાર
2. શ્રમની જીત
3. નહિ સંભળાયેલી ચીસ
4. ગણેશ

Options :

485584144657. 1
485584144658. 2
485584144659. 3
485584144660. 4

Question Number : 415 Question Id : 48558436165 Question Type : MCQ Option Shuffling : No Is Question Mandatory : No Calculator : None Response Time : N.A Think Time : N.A Minimum Instruction Time : 0

Correct Marks : 5 Wrong Marks : 1

Question Key Details :

Key	Value
Comprehension	Comp1

ಕೆಳಗಿನ ವಾಕ್ಯಪುಂಜವನ್ನು ಓದಿ ಮತ್ತು ಚಿತ್ರವನ್ನು ವೀಕ್ಷಿಸಿ ಮತ್ತು ಕೆಳಗಿನ ಪ್ರಶ್ನೆಗಳನ್ನು ಉತ್ತರಿಸಿ.



ಸಮಕಾಲೀನ ಶಿಲ್ಪಕಲೆಯ ಹೆಸರನ್ನು ಗುರುತಿಸಿ.

1. ಸಂಧಾಲಾ ಕುಟುಂಬ
2. ಕಾರ್ಮಿಕರ ದಿಗ್ವಿಜಯ
3. ಕೇಳಿಸದ ಕೂಗು
4. ಗಣೇಶ

**Options :**

485584144657. 1  
485584144658. 2  
485584144659. 3  
485584144660. 4

**Question Number : 415 Question Id : 48558436165 Question Type : MCQ Option Shuffling : No Is Question Mandatory : No Calculator : None Response Time : N.A Think Time : N.A Minimum Instruction Time : 0**

**Correct Marks : 5 Wrong Marks : 1**

**Question Key Details :**

Key	Value
Comprehension	Comp1



സമകാലിക ശില്പകലാ രീതി ഏതെന്ന് കണ്ടെത്തുക :

1. സാന്താൾ കൂട്ടുംബം
2. അധാനത്തിന്റെ വിജയം
3. കേൾക്കാത്ത വിലാപങ്ങൾ
4. ഗണേശ

**Options :**

- 485584144657. 1
- 485584144658. 2
- 485584144659. 3
- 485584144660. 4

**Question Number : 415 Question Id : 48558436165 Question Type : MCQ Option Shuffling : No Is Question Mandatory : No Calculator : None Response Time : N.A Think Time : N.A Minimum Instruction Time : 0**

**Correct Marks : 5 Wrong Marks : 1**

**Question Key Details :**

Key	Value
Comprehension	Comp1

पुढील उतारा व हे प्रतिमा पाहून प्रश्नांची उत्तरे लिहा.

1959 मध्ये बनवलेल्या या शिल्पात चार आकृत्या ऑडक्याने मोठा खडक हलवण्याचा प्रयत्न करत असताना अडळतात. राष्ट्र उभारणीत मानवी श्रमाचे महत्त्व प्रतिबिंबित होताना व त्या श्रमाचे योगदान असल्याचे दिसते. मनुष्य अजिंक्य निसर्गाच्या शातकातील एक प्रसिध्द रोमांचकारी विषय मॉडला आहे. शिल्पकाराने मोठ्या प्रमाणात अचल खडक सैल करण्याचा प्रयत्न दाखवला आहे. मानवी आकृत्या अश्या प्रकारे स्थित केल्या आहेत ज्यामुळे दर्शकांचे कुतूहल, जागृत होऊन ती सर्व बाजूने शिल्प पाहण्यासाठी प्रवृत्त होतो.



समकालिन शिल्पाचे नाव ओळखा

1. संथाल कुटुंब
2. ट्रायफ ऑफ केबर (श्रमाचा विजय)
3. क्राइठ अनहर्ट
4. गणेशा

Options :

485584144657. 1  
485584144658. 2  
485584144659. 3  
485584144660. 4

Question Number : 415 Question Id : 48558436165 Question Type : MCQ Option Shuffling : No Is Question Mandatory : No Calculator : None  
Response Time : N.A Think Time : N.A Minimum Instruction Time : 0

Correct Marks : 5 Wrong Marks : 1

Question Key Details :

Key	Value
Comprehension	Comp1

ବିଆହାରଣ୍ଡା ଅନୁକ୍ରମେ ପଦକୁ ଏବଂ ଦୃଶ୍ୟକୁ ଦେଖି ନିମ୍ନ ଉତ୍ତର ଦିଅନ୍ତୁ

"ଏହି ମୂର୍ତ୍ତି 1959ରେ ଗଢ଼ା ହୋଇଥିଲା, ଏହା ଗାନ୍ଧୀଜୀ ପୁରୁଷକୁ ଏକ ପଥର ଚକାଇବାକୁ ଦେଖା କରୁଥିବା ଦେଖାଏ, ଗାନ୍ଧୀ ଭାବନାରେ ମାନବ ଶ୍ରମର ସ୍ତୂପର ଏବଂ ଅବଦାନକୁ ଦର୍ଶାଏ। ଅବିସ୍ମରଣୀୟ ପୁରୁଷମାନେ ପ୍ରକୃତି ସହିତ ସଂଘର୍ଷ କରୁଛନ୍ତି। ଅଧିକୃଷ୍ଟ ଏବଂ ଶକ୍ତିଶାଳୀ। ଏହା ପ୍ରକୃତିର ଉପାଦାନ ସୃଷ୍ଟିକ ବିରୁଦ୍ଧରେ ଶ୍ରମର ଚିତ୍ର 19 ଶତାବ୍ଦୀର ଏକ କଣ୍ଠାସୁଣୀ ଏବଂ ଗୋମାଞ୍ଜର ବିଷୟ। ଶିଳ୍ପୀ ଏକ ବିଭୀତ ଅଭାବର ପଥରକୁ ସୂତ୍ର କରିବାକୁ ଚଳଣ ଶାଗାରିକ ପ୍ରୟାସକୁ ଚିତ୍ରଣ କରିଛନ୍ତି। ମାନବ ଚିତ୍ର ସ୍ତୂପର ଏପରି ଭାବରେ ସଂଯୋଗିତ ହୋଇଛି ଯାହା ଆମ ଭିତରେ ଏକ ଜରି ସୃଷ୍ଟି କରେ କାରଣ ଦର୍ଶକମାନେ ଏହାକୁ ସବୁ ବିଗଳୁ ଦେଖିବା ପାଇଁ ଦର୍ଶକକୁ ଆକର୍ଷିତ କରନ୍ତି।



Identify the name of the contemporary sculpture.

1. ସାନ୍ତାଳ ପରିବାର
2. ଭୂତାଳ ଅଫ ଲେବର
3. ଭୂତାଳ ଅନ-ହର୍ଡ
4. ବଶୋଷ

Options :

- 485584144657. 1
- 485584144658. 2
- 485584144659. 3
- 485584144660. 4

Question Number : 415 Question Id : 48558436165 Question Type : MCQ Option Shuffling : No Is Question Mandatory : No Calculator : None Response Time : N.A Think Time : N.A Minimum Instruction Time : 0

Correct Marks : 5 Wrong Marks : 1

Question Key Details :

Key	Value
Comprehension	Compl

ਇਹ ਮੂਰਤੀ 1959 ਵਿੱਚ ਤਿਆਰ ਕੀਤੀ। ਇਸ ਵਿੱਚ ਚਾਰ ਆਦਮੀ ਇੱਕ ਚਟਾਨ ਨੂੰ ਹਿਲਾਉਣ ਦੀ ਕੋਸ਼ਿਸ਼ ਕਰਦੇ ਦਿਖਾਈ ਦੇ ਰਹੇ ਹਨ, ਰਾਸ਼ਟਰੀ ਨਿਰਮਾਣ ਵਿੱਚ ਮਹੱਤਤਾ ਅਤੇ ਯੋਗਦਾਨ ਦੀ ਪੇਸ਼ਕਾਰੀ ਹੈ। ਅਜਿਹੇ ਆਦਮੀ ਕੁੜੀਆਂ ਵਾਂਗ ਅਣਥੱਕ ਅਤੇ ਤਾਕਤਵਰ ਢੰਗ ਨਾਲ ਕੁਦਰਤ ਨਾਲ ਕਸਰੀ ਕਰ ਰਹੇ ਹਨ। ਇਹ ਕੁਦਰਤ ਦੇ ਤੱਤਾਂ ਦੇ ਵਿਰੁੱਧ ਕਿਰਤ ਦਾ ਚਿੰਨ੍ਹ ਹੈ, ਇਹ 19ਵੀਂ ਸਦੀ ਦਾ ਇੱਕ ਮਸ਼ਹੂਰ ਰੋਮਾਂਟਿਕ ਵਿਸ਼ਾ ਹੈ। ਮੂਰਤੀਕਾਰ ਨੇ ਇੱਕ ਵਿਚਲ, ਅਚੱਲ ਚਟਾਨ ਨੂੰ ਹਟਾਉਣ ਦੇ ਅਤਿਅੰਤ ਸਰੀਰਿਕ ਯਤਨ ਨੂੰ ਦਰਸਾਇਆ ਹੈ। ਮਨੁੱਖੀ ਚਿੰਤਨ ਨੂੰ ਇਸ ਤਰੀਕੇ ਨਾਲ ਸੰਕੇਪਿਤ ਕੀਤਾ ਜਾਂਦਾ ਹੈ ਜੋ ਸਾਡੇ ਵਿੱਚ ਇੱਕ ਉਤਲੇਕਤਾ ਪੈਦਾ ਕਰਦਾ ਅਗਲੇਰੇ ਦਰਸਕਾਂ ਨੂੰ ਹੋਰ ਪਾਸਿਉਂ ਦੇਖਣ ਲਈ ਆਕਰਸ਼ਿਤ ਕਰਦੇ ਹਨ।



ਸਮਕਾਲੀ ਮੂਰਤੀ ਦਾ ਨਾਮ ਪਛਾਣੋ:

1. ਸੰਥਲ ਪਰਿਵਾਰ
2. ਕਿਰਤ ਦੀ ਜਿੱਤ
3. ਰੋਣਾ ਅਨ ਸੁਣਿਆ
4. ਗਣੇਸ਼

Options :

485584144657. 1  
 485584144658. 2  
 485584144659. 3  
 485584144660. 4

Question Number : 415 Question Id : 48558436165 Question Type : MCQ Option Shuffling : No Is Question Mandatory : No Calculator : None  
 Response Time : N.A Think Time : N.A Minimum Instruction Time : 0

Correct Marks : 5 Wrong Marks : 1

Question Key Details :

Key	Value
Comprehension	Comp1





இந்த சமகால சிற்பத்தின் பெயரைக் கண்டறிக:

1. சாந்தளம் குடும்பம்
2. ட்ரியஃப் ஆஃப் லேபர்
3. க்ரைஸ் அன்-ஹியர்டு
4. கணேஷா

**Options :**

485584144657. 1

485584144658. 2

485584144659. 3

485584144660. 4

Question Number : 415 Question Id : 48558436165 Question Type : MCQ Option Shuffling : No Is Question Mandatory : No Calculator : None  
Response Time : N.A Think Time : N.A Minimum Instruction Time : 0

Correct Marks : 5 Wrong Marks : 1

Question Key Details :

Key	Value
Comprehension	Comp1



1. سنتیال خاندان
2. محنت کی فتح
3. کر ایس ان ہیئرڈ
4. گنیشا

**Options :**

485584144657. 1  
485584144658. 2  
485584144659. 3  
485584144660. 4

**Sub-Section Number :** 3  
**Sub-Section Id :** 4855842812  
**Question Shuffling Allowed :** No  
**Is Section Default? :** null

**Question Number :** 416 **Question Id :** 48558436166 **Question Type :** MCQ **Option Shuffling :** No **Is Question Mandatory :** No **Calculator :** None  
**Response Time :** N.A **Think Time :** N.A **Minimum Instruction Time :** 0

**Correct Marks :** 5 **Wrong Marks :** 1

**Question Key Details :**

Key	Value
Comprehension	Comp2

Observe the image and answer the following question.



Identify the title of the painting.

1. Maru Ragini
2. Ragini Pathamsika
3. Bani-Thani
4. Radhika

**Options :**

485584144661. 1  
485584144662. 2  
485584144663. 3  
485584144664. 4

Question Number : 416 Question Id : 48558436166 Question Type : MCQ Option Shuffling : No Is Question Mandatory : No Calculator : None  
Response Time : N.A Think Time : N.A Minimum Instruction Time : 0

Correct Marks : 5 Wrong Marks : 1

Question Key Details :

Key	Value
Comprehension	Comp2

चित्र को देखकर निम्न प्रश्न का उत्तर दीजिए:



चित्र के शीर्षक को पहचानिए:

1. मारू रागिनी
2. रागिनी पथमशिका
3. बनी-ठनी
4. राशिका

Options :

485584144661. 1  
485584144662. 2  
485584144663. 3  
485584144664. 4

Question Number : 416 Question Id : 48558436166 Question Type : MCQ Option Shuffling : No Is Question Mandatory : No Calculator : None  
Response Time : N.A Think Time : N.A Minimum Instruction Time : 0

Correct Marks : 5 Wrong Marks : 1

Question Key Details :

Key	Value
Comprehension	Comp2



চিত্রশিল্পখন চিনাক্ত কৰা

1. মাকু বাগিনী
2. বাগিনী পথমটিকা
3. বানী থানী
4. বাধিকা

**Options :**

485584144661. 1  
485584144662. 2  
485584144663. 3  
485584144664. 4

**Question Number : 416 Question Id : 48558436166 Question Type : MCQ Option Shuffling : No Is Question Mandatory : No Calculator : None Response Time : N.A Think Time : N.A Minimum Instruction Time : 0**

**Correct Marks : 5 Wrong Marks : 1**

**Question Key Details :**

Key	Value
Comprehension	Comp2

চিত্রটি লক্ষ্য করে প্রশ্নের উত্তর দাও .



চিত্র বা পেন্টিংটির শিরোনাম হল

1. মরুগাগিনী
2. রাগিনী প্রথমশিকা
3. বানী-খানী
4. রাধিকা

Options :

485584144661. 1  
485584144662. 2  
485584144663. 3  
485584144664. 4

Question Number : 416 Question Id : 48558436166 Question Type : MCQ Option Shuffling : No Is Question Mandatory : No Calculator : None  
Response Time : N.A Think Time : N.A Minimum Instruction Time : 0

Correct Marks : 5 Wrong Marks : 1

Question Key Details :

Key	Value
Comprehension	Comp2

આપેલ ચિત્રને ઓળખી નીચેના પ્રશ્નનો જવાબ આપો.



પેઈન્ટિંગના શિર્ષકને ઓળખો.

1. મારુ રાગીની
2. રાગીની પથમશીકા
3. બની - થની
4. રાધિકા

**Options :**

485584144661. 1  
485584144662. 2  
485584144663. 3  
485584144664. 4

**Question Number : 416 Question Id : 48558436166 Question Type : MCQ Option Shuffling : No Is Question Mandatory : No Calculator : None Response Time : N.A Think Time : N.A Minimum Instruction Time : 0**

**Correct Marks : 5 Wrong Marks : 1**

**Question Key Details :**

Key	Value
Comprehension	Comp2

ಬೆತ್ತವನ್ನು ವೀಕ್ಷಿಸಿ ಮತ್ತು ಕೆಳಗಿನ ಪ್ರಶ್ನೆಯನ್ನು ಉತ್ತರಿಸಿ:



ಬೆತ್ತಕಲೆಯ ತೀರ್ಪಿಕೆಯನ್ನು ಗುರುತಿಸಿ.

1. ಮೂರು ರಾಗಿಣಿ
2. ರಾಗಿಣಿ ಪಠ್ಯಮೈಕ
3. ಬಾನಿ-ತಾನಿ
4. ರಾಧಿಕ

**Options :**

485584144661. 1  
485584144662. 2  
485584144663. 3  
485584144664. 4

**Question Number : 416 Question Id : 48558436166 Question Type : MCQ Option Shuffling : No Is Question Mandatory : No Calculator : None Response Time : N.A Think Time : N.A Minimum Instruction Time : 0**

**Correct Marks : 5 Wrong Marks : 1**

**Question Key Details :**

Key	Value
Comprehension	Comp2



ചിത്രം വീക്ഷിച്ച്, താഴെ നൽകിയിരിക്കുന്ന ചോദ്യങ്ങൾക്ക് ഉത്തരം എഴുതുക :



ഈ ചിത്രത്തിന്റെ പേര് എന്ത് ?

1. മാരു രാഗിണി
2. രാഗിണി പാതാംശിക
3. ബാനി-താനി
4. രാധിക

**Options :**

- 485584144661. 1
- 485584144662. 2
- 485584144663. 3
- 485584144664. 4

**Question Number : 416 Question Id : 48558436166 Question Type : MCQ Option Shuffling : No Is Question Mandatory : No Calculator : None Response Time : N.A Think Time : N.A Minimum Instruction Time : 0**

**Correct Marks : 5 Wrong Marks : 1**

**Question Key Details :**

Key	Value
Comprehension	Comp2

चरित प्रतिमा पाहून प्रश्नाचे उत्तर शोधा.



या चित्रा चे शिर्षक ओळखा.

1. मारु रागिणी
2. रागिणी पधमशिका
3. बानी.थानी
4. राधिका

**Options :**

485584144661. 1  
485584144662. 2  
485584144663. 3  
485584144664. 4

**Question Number : 416 Question Id : 48558436166 Question Type : MCQ Option Shuffling : No Is Question Mandatory : No Calculator : None Response Time : N.A Think Time : N.A Minimum Instruction Time : 0**

**Correct Marks : 5 Wrong Marks : 1**

**Question Key Details :**

Key	Value
Comprehension	Comp2

ଚିତ୍ରଟିକୁ ଦେଖି ନିମ୍ନୋକ୍ତ ପ୍ରଶ୍ନର ଉତ୍ତର ଦିଅନ୍ତୁ ।



ପ୍ରତିଛବିକୁ ଦେଖି ଏକ ନିମ୍ନ ପ୍ରଶ୍ନର ଉତ୍ତର ଦିଅନ୍ତୁ।

1. ମାତୃ ଭାଗିଣୀ
2. ଭାଗିଣୀ ପାପମଣିରୀ
3. ଜାଣି-ପାଳୀ
4. ରାଧିକା

**Options :**

485584144661. 1  
485584144662. 2  
485584144663. 3  
485584144664. 4

**Question Number : 416 Question Id : 48558436166 Question Type : MCQ Option Shuffling : No Is Question Mandatory : No Calculator : None Response Time : N.A Think Time : N.A Minimum Instruction Time : 0**

**Correct Marks : 5 Wrong Marks : 1**

**Question Key Details :**

Key	Value
Comprehension	Comp2



ਪ੍ਰਤੀਬੰਧ ਦਾ ਵਿਸ਼ਲੇਸ਼ਣ ਕਰੋ ਅਤੇ ਪ੍ਰਸ਼ਨਾਂ ਦੇ ਉੱਤਰ ਦਿਉ, ਚਿੱਤਰ ਦਾ ਸਿਰਲੇਖ ਪੜਾਓ।

1. ਮਾਨੂ ਰਾਗਿਨੀ
2. ਰਾਗਿਨੀ ਪਾਰਮਸ਼ਿਵਾ
3. ਥਾਨੀ-ਠਾਨੀ
4. ਰਾਧਿਕਾ

**Options :**

- 485584144661. 1
- 485584144662. 2
- 485584144663. 3
- 485584144664. 4

**Question Number : 416 Question Id : 48558436166 Question Type : MCQ Option Shuffling : No Is Question Mandatory : No Calculator : None Response Time : N.A Think Time : N.A Minimum Instruction Time : 0**

**Correct Marks : 5 Wrong Marks : 1**

**Question Key Details :**

Key	Value
Comprehension	Comp2

படத்தை கவனித்து பின்வரும் வினாக்களுக்கு விடையளி:



இந்த ஓவியத்தின் தலைப்பைக் கண்டறிக.

1. மறு ராகினி
2. ராகினி பதாம்விகா
3. பாணி-தானி
4. ராதிகா

**Options :**

485584144661. 1  
485584144662. 2  
485584144663. 3  
485584144664. 4

**Question Number : 416 Question Id : 48558436166 Question Type : MCQ Option Shuffling : No Is Question Mandatory : No Calculator : None Response Time : N.A Think Time : N.A Minimum Instruction Time : 0**

**Correct Marks : 5 Wrong Marks : 1**

**Question Key Details :**

Key	Value
Comprehension	Comp2

చిత్రాన్ని గమనిస్తూ క్రింది ప్రశ్నకు సమాధానం రాయండి.



చిత్రలేఖనం యొక్క పేరు గుర్తించండి

1. మరు రాగిణి
2. రాగిణి పజాంసిక
3. బని తని
4. రాధిక

Options :

485584144661. 1
485584144662. 2
485584144663. 3
485584144664. 4

Question Number : 416 Question Id : 48558436166 Question Type : MCQ Option Shuffling : No Is Question Mandatory : No Calculator : None Response Time : N.A Think Time : N.A Minimum Instruction Time : 0

Correct Marks : 5 Wrong Marks : 1

Question Key Details :

Key	Value
Comprehension	Comp2

تصویر کا مشاہدہ کریں اور مندرجہ ذیل سوالات کا جوابات دیں :

پینٹنگ کے عنوان کی شناخت کریں ؟

1. مزور راگنی
2. راگنی پنہو سیکا
3. بنی تپلی
4. راڈھیکا

Options :

485584144661. 1  
485584144662. 2  
485584144663. 3  
485584144664. 4

Question Number : 417 Question Id : 48558436167 Question Type : MCQ Option Shuffling : No Is Question Mandatory : No Calculator : None  
Response Time : N.A Think Time : N.A Minimum Instruction Time : 0

Correct Marks : 5 Wrong Marks : 1

Question Key Details :

Key	Value
Comprehension	Comp2

Observe the image and answer the following question.



Among the following Museums where this particular painting has been preserved.

1. National Gallery of Modern Art, New Delhi
2. Bihar Museum, Patna
3. National Museum, New Delhi
4. Kala Bhawan, Kolkata

Options :

485584144665. 1  
485584144666. 2  
485584144667. 3  
485584144668. 4

Question Number : 417 Question Id : 48558436167 Question Type : MCQ Option Shuffling : No Is Question Mandatory : No Calculator : None  
Response Time : N.A Think Time : N.A Minimum Instruction Time : 0

Correct Marks : 5 Wrong Marks : 1

Question Key Details :

Key	Value
Comprehension	Comp2

चित्र को देखकर निम्न प्रश्न का उत्तर दीजिए:



निम्न में से किस संग्रहालय में यह विशेष चित्र संरक्षित किया गया है?

1. आधुनिक कला की राष्ट्रीय कला दीर्घ, नई दिल्ली
2. बिहार संग्रहालय, पटना
3. राष्ट्रीय संग्रहालय, नई दिल्ली
4. कला भवन, कोलकाता

**Options :**

485584144665. 1  
485584144666. 2  
485584144667. 3  
485584144668. 4

**Question Number : 417 Question Id : 48558436167 Question Type : MCQ Option Shuffling : No Is Question Mandatory : No Calculator : None Response Time : N.A Think Time : N.A Minimum Instruction Time : 0**

**Correct Marks : 5 Wrong Marks : 1**

**Question Key Details :**

Key	Value
Comprehension	Comp2





তলৰ কোনটো সংগ্ৰহালয়ত এই চিত্ৰশিল্পখন আছে ?

1. নেচনেল গেলৰী অফ মডাৰ্ন আৰ্ট, নতুন দিল্লী
2. বিহাৰ মিউজিয়াম, পাটনা
3. নেচনেল মিউজিয়াম, নতুন দিল্লী
4. কালা ভৱন, কলকাতা

**Options :**

485584144665. 1  
485584144666. 2  
485584144667. 3  
485584144668. 4

Question Number : 417 Question Id : 48558436167 Question Type : MCQ Option Shuffling : No Is Question Mandatory : No Calculator : None  
Response Time : N.A Think Time : N.A Minimum Instruction Time : 0

Correct Marks : 5 Wrong Marks : 1

Question Key Details :

Key	Value
Comprehension	Comp2

চিত্রটি লক্ষ্য করে প্রশ্নের উত্তর দাও .



নিম্নলিখিত যাদুঘরগুলির কোনটিতে এই চিত্রটি সংরক্ষিত আছে .

1. ন্যাশনাল গ্যালারি অফ মডার্ন আর্ট, নিউ দিল্লী
2. বিহার মিউজিয়াম, পটনা
3. ন্যাশনাল মিউজিয়াম, নতুন দিল্লি
4. কলাভবন, কলকাতা

Options :

485584144665. 1  
485584144666. 2  
485584144667. 3  
485584144668. 4

Question Number : 417 Question Id : 48558436167 Question Type : MCQ Option Shuffling : No Is Question Mandatory : No Calculator : None  
Response Time : N.A Think Time : N.A Minimum Instruction Time : 0

Correct Marks : 5 Wrong Marks : 1

Question Key Details :

Key	Value
Comprehension	Comp2

આપેલ ચિત્રને ઓળખી નીચેના પ્રશ્નનો જવાબ આપો.



નીચે આપેલા મ્યુઝીયમમાંથી કયા મ્યુઝિયમમાં આ પેઇન્ટિંગને સાચવી રાખવામાં આવેલ છે ?

1. નેશનલ ગેલેરી ઓફ મોડર્ન આર્ટ, નવી દિલ્હી
2. બિહાર મ્યુઝિયમ, પટના
3. નેશનલ મ્યુઝિયમ, નવી દિલ્હી
4. ક્વાલવન, કોલકટા

**Options :**

485584144665. 1  
485584144666. 2  
485584144667. 3  
485584144668. 4

**Question Number : 417 Question Id : 48558436167 Question Type : MCQ Option Shuffling : No Is Question Mandatory : No Calculator : None Response Time : N.A Think Time : N.A Minimum Instruction Time : 0**

**Correct Marks : 5 Wrong Marks : 1**

**Question Key Details :**

Key	Value
Comprehension	Comp2

ಚಿತ್ರವನ್ನು ವೀಕ್ಷಿಸಿ ಮತ್ತು ಕೆಳಗಿನ ಪ್ರಶ್ನೆಯನ್ನು ಉತ್ತರಿಸಿ:



ಈ ನಿರ್ದಿಷ್ಟ ಚಿತ್ರಕಲೆಯನ್ನು ಕೆಳಗಿನ ಮೂ್ತಿಸಿಯಂಗಳಲ್ಲಿ ಎಲ್ಲಿ ಸಂರಕ್ಷಿಸಿಡಲಾಗಿದೆ?

1. ನ್ಯಾಷನಲ್ ಗ್ಯಾಲರಿ ಆಫ್ ಮೂಡರ್ನ್ ಆರ್ಟ್, ನವದೆಹಲಿ
2. ಬಿಹಾರ್ ಮೂ್ತಿಸಿಯಂ, ಪಟ್ನಾ
3. ನ್ಯಾಷನಲ್ ಮೂ್ತಿಸಿಯಂ, ನವದೆಹಲಿ
4. ಕಲಾ ಭವನ್, ಕೋಲ್ಕತ್ತಾ

**Options :**

485584144665. 1  
485584144666. 2  
485584144667. 3  
485584144668. 4

**Question Number : 417 Question Id : 48558436167 Question Type : MCQ Option Shuffling : No Is Question Mandatory : No Calculator : None Response Time : N.A Think Time : N.A Minimum Instruction Time : 0**

**Correct Marks : 5 Wrong Marks : 1**

**Question Key Details :**

Key	Value
Comprehension	Comp2

ചിത്രം വീക്ഷിച്ച്, താഴെ നൽകിയിരിക്കുന്ന ചോദ്യങ്ങൾക്ക് ഉത്തരം എഴുതുക :



ഈ ചിത്രം സൂക്ഷിച്ചിരിക്കുന്നത് ഏത് മ്യൂസിയത്തിലാണ് :

1. നാഷണൽ ഗ്യാലറി ഓഫ് മോഡേൺ ആർട്ട്, ന്യൂഡൽഹി
2. ബീഹാർ മ്യൂസിയം, പാറ്റ്ന
3. നാഷണൽ മ്യൂസിയം, ന്യൂഡൽഹി
4. കലാഭവൻ, കോൽക്കത്ത

Options :

- 485584144665. 1
- 485584144666. 2
- 485584144667. 3
- 485584144668. 4

Question Number : 417 Question Id : 48558436167 Question Type : MCQ Option Shuffling : No Is Question Mandatory : No Calculator : None Response Time : N.A Think Time : N.A Minimum Instruction Time : 0

Correct Marks : 5 Wrong Marks : 1

Question Key Details :

Key	Value
Comprehension	Comp2

वरिल प्रतिमा पाहून प्रश्नाचे उत्तर शोधा.



कोणत्या वस्तु संग्राहलपात हे चित्र ठेवले आहे?

1. नवी दिल्ली येथील नॅशनल गॅलरी ऑफ मॉडर्न आर्ट
2. पटना येथील बिहार म्युझियम
3. नवी दिल्ली येथील नेशनल म्युझियम
4. कोलकाता येथील कला भवन

**Options :**

485584144665. 1  
485584144666. 2  
485584144667. 3  
485584144668. 4

Question Number : 417 Question Id : 48558436167 Question Type : MCQ Option Shuffling : No Is Question Mandatory : No Calculator : None  
Response Time : N.A Think Time : N.A Minimum Instruction Time : 0

Correct Marks : 5 Wrong Marks : 1

Question Key Details :

Key	Value
Comprehension	Comp2

ଚିତ୍ରଟିକୁ ଦେଖି ନିମ୍ନୋକ୍ତ ପ୍ରଶ୍ନର ଉତ୍ତର ଦିଅନ୍ତୁ ।



ପ୍ରଚ୍ଛିନ୍ନଚିତ୍ର ଦେଖିବିକୁ ଏକ ନିମ୍ନ ପ୍ରଶ୍ନର ଉତ୍ତର ଦିଅନ୍ତୁ।

1. ନେତ୍ରମାଳ ଶେରବତୀ ପ୍ରଫ ମହର୍ଷି ଆର୍ଟ, ନୂଆ ଦିଲ୍ଲୀ
2. ବିହାର ମୁଲଚିତ୍ରମ, ଡାକନ
3. ନେତ୍ରମାଳ ମୁଲଚିତ୍ରମ, ନୂଆ ଦିଲ୍ଲୀ
4. ଚନ୍ଦା ଭବନ, କୋଲକାତା

**Options :**

- 485584144665. 1
- 485584144666. 2
- 485584144667. 3
- 485584144668. 4

**Question Number : 417 Question Id : 48558436167 Question Type : MCQ Option Shuffling : No Is Question Mandatory : No Calculator : None Response Time : N.A Think Time : N.A Minimum Instruction Time : 0**

**Correct Marks : 5 Wrong Marks : 1**

**Question Key Details :**

Key	Value
Comprehension	Comp2



ਇਹ ਖਾਸ ਪੇਂਟਿੰਗ ਜੇਠ ਲਿਖਿਆਂ ਵਿੱਚੋਂ ਕਿਸ ਅਜਾਇਬ ਘਰ ਵਿੱਚ ਸੁਰੱਖਿਅਤ ਰੱਖੀ ਗਈ ਹੈ?

1. ਆਧੁਨਿਕ ਕਲਾ ਦੀ ਰਾਸ਼ਟਰੀ ਗੈਲਰੀ, ਨਵੀਂ ਦਿੱਲੀ
2. ਬਿਹਾਰ ਅਜਾਇਬ ਘਰ, ਪਟਨਾ
3. ਰਾਸ਼ਟਰੀ ਅਜਾਇਬ ਘਰ, ਨਵੀਂ ਦਿੱਲੀ
4. ਕਲਾ ਭਵਨ, ਕਲਕੱਤਾ

**Options :**

485584144665. 1

485584144666. 2

485584144667. 3

485584144668. 4

**Question Number : 417 Question Id : 48558436167 Question Type : MCQ Option Shuffling : No Is Question Mandatory : No Calculator : None Response Time : N.A Think Time : N.A Minimum Instruction Time : 0**

**Correct Marks : 5 Wrong Marks : 1**

**Question Key Details :**

Key	Value
Comprehension	Comp2



படத்தை கவனித்து பின்வரும் வினாக்களுக்கு விடையளி:



பின்வரும் மியூசியங்களில், இந்த குறிப்பிட்ட ஓவியம் எங்கு பராமரிக்கப்பட்டு வருகிறது?

1. தேசிய நவீன கலைக்கூடம், புதுதில்லி
2. பிஹார் மியூசியம், பாட்னா
3. தேசிய மியூசியம், புதுதில்லி
4. கால பவம், கொல்கத்தா

Options :

485584144665. 1

485584144666. 2

485584144667. 3

485584144668. 4

Question Number : 417 Question Id : 48558436167 Question Type : MCQ Option Shuffling : No Is Question Mandatory : No Calculator : None Response Time : N.A Think Time : N.A Minimum Instruction Time : 0

Correct Marks : 5 Wrong Marks : 1

Question Key Details :

Key	Value
Comprehension	Comp2

చిత్రాన్ని గమనిస్తూ క్రింది ప్రశ్నకు సమాధానం రాయండి.



ఈ ప్రత్యేక చిత్రాన్ని క్రింది ఏ మ్యూజియం లో భద్రపరచారు.

1. నేషనల్ గేలరీ ఆఫ్ మోడరన్ ఆర్ట్, న్యూఢిల్లీ
2. బీహార్ మ్యూజియం, పాట్నా
3. నేషనల్ మ్యూజియం, న్యూఢిల్లీ
4. కళా భవన్, కలకత్తా

Options :

485584144665. 1  
485584144666. 2  
485584144667. 3  
485584144668. 4

Question Number : 417 Question Id : 48558436167 Question Type : MCQ Option Shuffling : No Is Question Mandatory : No Calculator : None  
Response Time : N.A Think Time : N.A Minimum Instruction Time : 0

Correct Marks : 5 Wrong Marks : 1

Question Key Details :

Key	Value
Comprehension	Comp2

تصویر کا مشاہدہ کریں اور مندرجہ ذیل سوالات کا جوابات دیں :

کس میوزیم میں یہ مخصوص پینٹنگ رکھی گئی ہے ؟

1. نیشنل گیلری آف مودرن آرٹ، نئی دہلی
2. بہار میوزیم، پٹنہ
3. نیشنل میوزیم، نئی دہلی
4. کلا بیون، کولکاتا

**Options :**

- 485584144665. 1
- 485584144666. 2
- 485584144667. 3
- 485584144668. 4

**Question Number : 418 Question Id : 48558436168 Question Type : MCQ Option Shuffling : No Is Question Mandatory : No Calculator : None Response Time : N.A Think Time : N.A Minimum Instruction Time : 0**

**Correct Marks : 5 Wrong Marks : 1**

**Question Key Details :**

Key	Value
Comprehension	Comp2

Observe the image and answer the following question.



What object the character is holding with her left hand?

- 1. A Basket
- 2. Two Lotus buds
- 3. Two Garlands
- 4. A Book

**Options :**

- 485584144669. 1
- 485584144670. 2
- 485584144671. 3
- 485584144672. 4

**Question Number : 418 Question Id : 48558436168 Question Type : MCQ Option Shuffling : No Is Question Mandatory : No Calculator : None Response Time : N.A Think Time : N.A Minimum Instruction Time : 0**

**Correct Marks : 5 Wrong Marks : 1**

**Question Key Details :**

Key	Value
Comprehension	Comp2

चित्र को देखकर निम्न प्रश्न का उत्तर दीजिए:



पात्र अपने बाएँ हाथ में क्या वस्तु पकड़े हुए है?

1. एक टोकरी
2. कमल की दो कलियाँ
3. दो मालाएँ हार
4. एक पुस्तक

**Options :**

485584144669. 1  
485584144670. 2  
485584144671. 3  
485584144672. 4

Question Number : 418 Question Id : 48558436168 Question Type : MCQ Option Shuffling : No Is Question Mandatory : No Calculator : None  
Response Time : N.A Think Time : N.A Minimum Instruction Time : 0

Correct Marks : 5 Wrong Marks : 1

Question Key Details :

Key	Value
Comprehension	Comp2



চৰিত্ৰৰ বাঁওহাতত কি আছে ?

1. এটা খৰাহি
2. দুটা পদুম ফুলৰ কলি
3. দুডাল মালা
4. এখন কিতাপ

**Options :**

485584144669. 1  
485584144670. 2  
485584144671. 3  
485584144672. 4

**Question Number : 418 Question Id : 48558436168 Question Type : MCQ Option Shuffling : No Is Question Mandatory : No Calculator : None Response Time : N.A Think Time : N.A Minimum Instruction Time : 0**

**Correct Marks : 5 Wrong Marks : 1**

**Question Key Details :**

Key	Value
Comprehension	Comp2

চিত্রটি লক্ষ্য করে প্রশ্নের উত্তর দাও .



চিত্রটিতে নারীটি / চরিত্রটি তার বামহস্তে কি ধরে আছে ?

1. একটি ঝুড়ি
2. দুটি কমল বা পদ্মকুড়ি
3. দুটি মালা
4. একটি বই / পুস্তক

**Options :**

485584144669. 1  
485584144670. 2  
485584144671. 3  
485584144672. 4

Question Number : 418 Question Id : 48558436168 Question Type : MCQ Option Shuffling : No Is Question Mandatory : No Calculator : None  
Response Time : N.A Think Time : N.A Minimum Instruction Time : 0

Correct Marks : 5 Wrong Marks : 1

Question Key Details :

Key	Value
Comprehension	Comp2

આપેલ ચિત્રને ઓળખી નીચેના પ્રશ્નનો જવાબ આપો.



પાત્રએ તેના ડાબા હાથમાં કઈ વસ્તુ પકડી રાખેલ છે ?

1. એક ટોપલી
2. બે કમળનાં ફૂલ
3. બે માળાઓ
4. એક ધોપડી

**Options :**

485584144669. 1  
485584144670. 2  
485584144671. 3  
485584144672. 4

**Question Number : 418 Question Id : 48558436168 Question Type : MCQ Option Shuffling : No Is Question Mandatory : No Calculator : None Response Time : N.A Think Time : N.A Minimum Instruction Time : 0**

**Correct Marks : 5 Wrong Marks : 1**

**Question Key Details :**

Key	Value
Comprehension	Comp2

ಬೆತ್ತವನ್ನು ವೀಕ್ಷಿಸಿ ಮತ್ತು ಕೆಳಗಿನ ಪ್ರಶ್ನೆಯನ್ನು ಉತ್ತರಿಸಿ:



ಅವಳ ಎಡಗೈ, ಜೊತೆ ಗುಣಲಕ್ಷಣವನ್ನು ಹಿಡಿದಿಟ್ಟುಕೊಂಡಿರುವ ವಸ್ತುವೇನು?

1. ಒಂದು ಬುಟ್ಟಿ
2. ಎರಡು ಕಮಲದ ಮೊಗ್ಗುಗಳು
3. ಎರಡು ಹಾರಗಳು
4. ಒಂದು ಪುಸ್ತಕ

**Options :**

485584144669. 1  
485584144670. 2  
485584144671. 3  
485584144672. 4

**Question Number : 418 Question Id : 48558436168 Question Type : MCQ Option Shuffling : No Is Question Mandatory : No Calculator : None Response Time : N.A Think Time : N.A Minimum Instruction Time : 0**

**Correct Marks : 5 Wrong Marks : 1**

**Question Key Details :**

Key	Value
Comprehension	Comp2



ചിത്രം വീക്ഷിച്ച്, താഴെ നൽകിയിരിക്കുന്ന ചോദ്യങ്ങൾക്ക് ഉത്തരം എഴുതുക :



ഈ കഥാപാത്രം അവളുടെ ഇടതുകൈയിൽ പിടിച്ചിരിക്കുന്ന വസ്തു എന്ത് ?

1. ഒരു കൂട്ട
2. രണ്ട് താമരമൊട്ടുകൾ
3. രണ്ട് പൂമൊട്ടുകൾ
4. ഒരു പുസ്തകം

Options :

- 485584144669. 1
- 485584144670. 2
- 485584144671. 3
- 485584144672. 4

Question Number : 418 Question Id : 48558436168 Question Type : MCQ Option Shuffling : No Is Question Mandatory : No Calculator : None Response Time : N.A Think Time : N.A Minimum Instruction Time : 0

Correct Marks : 5 Wrong Marks : 1

Question Key Details :

Key	Value
Comprehension	Comp2

चरित प्रतिमा पाहून प्रश्नाचे उत्तर शोधा.



चित्रातील पात्राने डाव्या हातात काय पकडले आहे?

1. रोपली
2. दोन कमळांची फुले
3. दोन झार
4. पुस्तक

**Options :**

485584144669. 1  
485584144670. 2  
485584144671. 3  
485584144672. 4

**Question Number : 418 Question Id : 48558436168 Question Type : MCQ Option Shuffling : No Is Question Mandatory : No Calculator : None Response Time : N.A Think Time : N.A Minimum Instruction Time : 0**

**Correct Marks : 5 Wrong Marks : 1**

**Question Key Details :**

Key	Value
Comprehension	Comp2

ବିହୁଗିକୁ ଦେଖି ନିମ୍ନୋକ୍ତ ପ୍ରଶ୍ନର ଉତ୍ତର ଦିଅନ୍ତୁ ।



ବିହୁଗିରେ ବଳିତ୍ର ବାମ ହାତରେ କ'ଣ ଧରିଛନ୍ତି ?

1. ଏକ ଗୋବେର
2. ବୁଦ୍ଧି ପଦ୍ମ କଢି
3. ବୁଦ୍ଧି ପୁଷ୍ପମାଳ
4. ଏକ ପୁଷ୍ପମ

Options :

485584144669. 1

485584144670. 2

485584144671. 3

485584144672. 4

Question Number : 418 Question Id : 48558436168 Question Type : MCQ Option Shuffling : No Is Question Mandatory : No Calculator : None Response Time : N.A Think Time : N.A Minimum Instruction Time : 0

Correct Marks : 5 Wrong Marks : 1

Question Key Details :

Key	Value
Comprehension	Comp2



ਪਾਤਰ ਨੇ ਆਪਣੇ ਖੱਬੇ ਹੱਥ ਵਿੱਚ ਕਿਹੜੀ ਚੀਜ਼ ਫੜੀ ਹੈ?

1. ਇੱਕ ਟੋਕਰੀ
2. ਦੋ ਕਮਲ ਦੀਆਂ ਮੁਕੁਲ
3. ਦੋ ਹਾਰ
4. ਇੱਕ ਕਿਤਾਬ

**Options :**

485584144669. 1

485584144670. 2

485584144671. 3

485584144672. 4

**Question Number : 418 Question Id : 48558436168 Question Type : MCQ Option Shuffling : No Is Question Mandatory : No Calculator : None Response Time : N.A Think Time : N.A Minimum Instruction Time : 0**

**Correct Marks : 5 Wrong Marks : 1**

**Question Key Details :**

Key	Value
Comprehension	Comp2

படத்தை கவனித்து பின்வரும் வினாக்களுக்கு விடையளி:



கனது இடது கையில் இந்த கதாபத்திரம் எந்தப் பொருளை வைத்து உள்ளார்?

1. ஒரு கூடை
2. இரு தாமரை மொட்டுக்கள்
3. இரு மலர் மாலைகள்
4. ஒரு புத்தகம்

Options :

485584144669. 1  
485584144670. 2  
485584144671. 3  
485584144672. 4

Question Number : 418 Question Id : 48558436168 Question Type : MCQ Option Shuffling : No Is Question Mandatory : No Calculator : None  
Response Time : N.A Think Time : N.A Minimum Instruction Time : 0

Correct Marks : 5 Wrong Marks : 1

Question Key Details :

Key	Value
Comprehension	Comp2

చిత్రాన్ని గమనిస్తూ క్రింది ప్రశ్నకు సమాధానం రాయండి.



చిత్రములోని పాత్ర తన ఎడమ చేతిలో ఏ వస్తువుని పట్టుకొని ఉన్నది

1. ఒక బుట్ట
2. రెండు శామర మొగ్గలు
3. రెండు దండలు
4. ఒక పుస్తకము

Options :

485584144669. 1  
485584144670. 2  
485584144671. 3  
485584144672. 4

Question Number : 418 Question Id : 48558436168 Question Type : MCQ Option Shuffling : No Is Question Mandatory : No Calculator : None  
Response Time : N.A Think Time : N.A Minimum Instruction Time : 0

Correct Marks : 5 Wrong Marks : 1

Question Key Details :

Key	Value
Comprehension	Comp2

تصویر کا مشاہدہ کریں اور مندرجہ ذیل سوالات کا جوابات لیں :

پینٹنگ میں کرناڑا بالیوں ہاتھ میں کیا چیز پکڑی ہے ؟

1. ایک توکری
2. کھل کی دو پتلیں
3. دو مالائیں
4. ایک کتاب

**Options :**

- 485584144669. 1
- 485584144670. 2
- 485584144671. 3
- 485584144672. 4

**Question Number : 419 Question Id : 48558436169 Question Type : MCQ Option Shuffling : No Is Question Mandatory : No Calculator : None Response Time : N.A Think Time : N.A Minimum Instruction Time : 0**

**Correct Marks : 5 Wrong Marks : 1**

**Question Key Details :**

Key	Value
Comprehension	Comp2

Observe the image and answer the following question.



What is the Sub School of the mentioned painting?

- 1. Bikaner
- 2. Mewar
- 3. Jaipur
- 4. Kishangarh

**Options :**

- 485584144673. 1
- 485584144674. 2
- 485584144675. 3
- 485584144676. 4

**Question Number : 419 Question Id : 48558436169 Question Type : MCQ Option Shuffling : No Is Question Mandatory : No Calculator : None Response Time : N.A Think Time : N.A Minimum Instruction Time : 0**

**Correct Marks : 5 Wrong Marks : 1**

**Question Key Details :**

Key	Value
Comprehension	Comp2

चित्र को देखकर निम्न प्रश्न का उत्तर दीजिए:



दी गई चित्र की उप-शैली क्या है?

1. बीकानेर
2. मेवाड़
3. जयपुर
4. किशनगढ़

**Options :**

485584144673. 1  
485584144674. 2  
485584144675. 3  
485584144676. 4

**Question Number : 419 Question Id : 48558436169 Question Type : MCQ Option Shuffling : No Is Question Mandatory : No Calculator : None Response Time : N.A Think Time : N.A Minimum Instruction Time : 0**

**Correct Marks : 5 Wrong Marks : 1**

**Question Key Details :**

Key	Value
Comprehension	Comp2





চিত্রশিল্পখন কোনখন উপ বিদ্যালয়ৰ পৰা লোৱা গৈছে ?

1. বিকানেৰ
2. মেৱাৰ
3. জয়পুৰ
4. কুষ্মাগড়

**Options :**

485584144673. 1  
485584144674. 2  
485584144675. 3  
485584144676. 4

**Question Number : 419 Question Id : 48558436169 Question Type : MCQ Option Shuffling : No Is Question Mandatory : No Calculator : None Response Time : N.A Think Time : N.A Minimum Instruction Time : 0**

**Correct Marks : 5 Wrong Marks : 1**

**Question Key Details :**

Key	Value
Comprehension	Comp2

চিত্রটি লক্ষ্য করে প্রশ্নের উত্তর দাও .



পেন্টিংটির উপস্থল বা বিদ্যালয়ের নাম কি ?

1. বিকানের
2. মেওয়াড়
3. জয়পুর
4. কিশ্বাণগড়

Options :

485584144673. 1  
485584144674. 2  
485584144675. 3  
485584144676. 4

Question Number : 419 Question Id : 48558436169 Question Type : MCQ Option Shuffling : No Is Question Mandatory : No Calculator : None  
Response Time : N.A Think Time : N.A Minimum Instruction Time : 0

Correct Marks : 5 Wrong Marks : 1

Question Key Details :

Key	Value
Comprehension	Comp2

આપેલ ચિત્રને ઓળખી નીચેના પ્રશ્નનો જવાબ આપો.



આપેલ ચિત્ર કઈ પેટા સ્કૂલનું છે ?

1. બિકાનેર
2. મેવાડ
3. જયપુર
4. કિશનગઢ

**Options :**

485584144673. 1  
485584144674. 2  
485584144675. 3  
485584144676. 4

**Question Number : 419 Question Id : 48558436169 Question Type : MCQ Option Shuffling : No Is Question Mandatory : No Calculator : None Response Time : N.A Think Time : N.A Minimum Instruction Time : 0**

**Correct Marks : 5 Wrong Marks : 1**

**Question Key Details :**

Key	Value
Comprehension	Comp2

ಬೆತ್ತವನ್ನು ವೀಕ್ಷಿಸಿ ಮತ್ತು ಕೆಳಗಿನ ಪ್ರಶ್ನೆಯನ್ನು ಉತ್ತರಿಸಿ:



ತೋರಿಸಿರುವ ಬೆತ್ತಕಲೆಯ ಉಪಶಾಖೆ ಯಾವುದು?

1. ಬಿಕಾನೆರ್
2. ಮೇವಾರ್
3. ಜೈಪುರ್
4. ಕಶ್ಮೀರ್

**Options :**

485584144673. 1  
485584144674. 2  
485584144675. 3  
485584144676. 4

**Question Number : 419 Question Id : 48558436169 Question Type : MCQ Option Shuffling : No Is Question Mandatory : No Calculator : None Response Time : N.A Think Time : N.A Minimum Instruction Time : 0**

**Correct Marks : 5 Wrong Marks : 1**

**Question Key Details :**

Key	Value
Comprehension	Comp2

ചിത്രം വീക്ഷിച്ച്, താഴെ നൽകിയിരിക്കുന്ന ചോദ്യങ്ങൾക്ക് ഉത്തരം എഴുതുക :



ഈ ചിത്രത്തിന്റെ ഉപസമ്പ്രദായം ഏത് ?

1. ബിക്നാനർ
2. മീവാൾ
3. ജമ്മൂർ
4. ക്ഷിപ്രൻപാൾ

Options :

- 485584144673. 1
- 485584144674. 2
- 485584144675. 3
- 485584144676. 4

Question Number : 419 Question Id : 48558436169 Question Type : MCQ Option Shuffling : No Is Question Mandatory : No Calculator : None Response Time : N.A Think Time : N.A Minimum Instruction Time : 0

Correct Marks : 5 Wrong Marks : 1

Question Key Details :

Key	Value
Comprehension	Comp2

चरित प्रतिमा पाहून प्रश्नाचे उत्तर शोधा.



चित्रात दर्शवलेली शैली कोणत्या उप शाळेची आहे?

1. बिकानेर
2. मेवाड
3. जयपूर
4. किशनगड

**Options :**

485584144673. 1  
485584144674. 2  
485584144675. 3  
485584144676. 4

**Question Number : 419 Question Id : 48558436169 Question Type : MCQ Option Shuffling : No Is Question Mandatory : No Calculator : None Response Time : N.A Think Time : N.A Minimum Instruction Time : 0**

**Correct Marks : 5 Wrong Marks : 1**

**Question Key Details :**

Key	Value
Comprehension	Comp2

ଚିତ୍ରଟିକୁ ଦେଖି ନିମ୍ନୋକ୍ତ ପ୍ରଶ୍ନର ଉତ୍ତର ଦିଅନ୍ତୁ ।



ପ୍ରତିଛବିକୁ ଦେଖିତୁ ଏବଂ ନିମ୍ନ ପ୍ରଶ୍ନର ଉତ୍ତର ଦିଅନ୍ତୁ।

1. ଦିବ୍ୟନଗର
2. ମେଘନା
3. ବସନ୍ତ
4. ବିଶାଳଗଡ଼

**Options :**

- 485584144673. 1
- 485584144674. 2
- 485584144675. 3
- 485584144676. 4

**Question Number : 419 Question Id : 48558436169 Question Type : MCQ Option Shuffling : No Is Question Mandatory : No Calculator : None Response Time : N.A Think Time : N.A Minimum Instruction Time : 0**

**Correct Marks : 5 Wrong Marks : 1**

**Question Key Details :**

Key	Value
Comprehension	Comp2



ਦਿੱਤੇ ਹੋਏ ਚਿੱਤਰ ਦਾ ਸਬ ਸਕੂਲ ਪਛਾਣੋ?

1. ਬੀਕਾਨੇਰ
2. ਮੇਵਾੜ
3. ਜੇਪੁਰ
4. ਕਿਸ਼ਨਗੜ੍ਹ

**Options :**

485584144673. 1  
485584144674. 2  
485584144675. 3  
485584144676. 4

**Question Number : 419 Question Id : 48558436169 Question Type : MCQ Option Shuffling : No Is Question Mandatory : No Calculator : None Response Time : N.A Think Time : N.A Minimum Instruction Time : 0**

**Correct Marks : 5 Wrong Marks : 1**

**Question Key Details :**

Key	Value
Comprehension	Comp2



படத்தை கவனித்து பின்வரும் வினாக்களுக்கு விடையளி:



குறிப்பிடப்பட்டுள்ள ஒவியத்தின் துணைப்பள்ளி எது?

1. பிகானெர்
2. மேவார்
3. ஜெய்பூர்
4. கிருஷ்ணகார்

**Options :**

485584144673. 1  
485584144674. 2  
485584144675. 3  
485584144676. 4

**Question Number : 419 Question Id : 48558436169 Question Type : MCQ Option Shuffling : No Is Question Mandatory : No Calculator : None Response Time : N.A Think Time : N.A Minimum Instruction Time : 0**

**Correct Marks : 5 Wrong Marks : 1**

**Question Key Details :**

Key	Value
Comprehension	Comp2

చిత్రాన్ని గమనిస్తూ క్రింది ప్రశ్నకు సమాధానం రాయండి.



ఈ చిత్రలేఖనం ఉప పాఠశాల ఏది ?

1. బికనర్
2. మేవార్
3. జైపూర్
4. కిమన్ గఢ్

Options :

485584144673. 1  
485584144674. 2  
485584144675. 3  
485584144676. 4

Question Number : 419 Question Id : 48558436169 Question Type : MCQ Option Shuffling : No Is Question Mandatory : No Calculator : None Response Time : N.A Think Time : N.A Minimum Instruction Time : 0

Correct Marks : 5 Wrong Marks : 1

Question Key Details :

Key	Value
Comprehension	Comp2

تصویر کا مشاہدہ کریں اور مندرجہ ذیل سوالات کا جوابات لیں :

منگورہ پینٹنگ کا ذیلی اسکول کونسا ہے ؟

1. بیکنر
2. میوڑ
3. جے پور
4. کٹن گڑھ

Options :

485584144673. 1  
485584144674. 2  
485584144675. 3  
485584144676. 4

**Question Number : 420 Question Id : 48558436170 Question Type : MCQ Option Shuffling : No Is Question Mandatory : No Calculator : None  
Response Time : N.A Think Time : N.A Minimum Instruction Time : 0  
Correct Marks : 5 Wrong Marks : 1**

**Question Key Details :**

Key	Value
Comprehension	Comp2

Observe the image and answer the following question.



What is the category of the painting?

1. Potraiture
2. Landscape
3. Caricature
4. Folk tale

**Options :**

485584144677. 1  
485584144678. 2  
485584144679. 3  
485584144680. 4

**Question Number : 420 Question Id : 48558436170 Question Type : MCQ Option Shuffling : No Is Question Mandatory : No Calculator : None  
Response Time : N.A Think Time : N.A Minimum Instruction Time : 0  
Correct Marks : 5 Wrong Marks : 1**

**Question Key Details :**

Key	Value
Comprehension	Comp2

चित्र को देखकर निम्न प्रश्न का उत्तर दीजिए:



चित्रकारी की विषय-सामग्री क्या है?

1. मुख चित्राकृति
2. भूदृश्य
3. व्यंगचित्र
4. लोककथा

**Options :**

485584144677. 1  
485584144678. 2  
485584144679. 3  
485584144680. 4

**Question Number : 420 Question Id : 48558436170 Question Type : MCQ Option Shuffling : No Is Question Mandatory : No Calculator : None Response Time : N.A Think Time : N.A Minimum Instruction Time : 0**

**Correct Marks : 5 Wrong Marks : 1**

**Question Key Details :**

Key	Value
Comprehension	Comp2



চিত্ৰশিল্পখনৰ বিষয়বস্তু কি ?

1. পৰটেশিয়ৰ
2. লেন্ডচকেপ
3. কেৰিকেচিউৰ
4. লোক কথা

**Options :**

485584144677. 1  
485584144678. 2  
485584144679. 3  
485584144680. 4

**Question Number : 420 Question Id : 48558436170 Question Type : MCQ Option Shuffling : No Is Question Mandatory : No Calculator : None Response Time : N.A Think Time : N.A Minimum Instruction Time : 0**

**Correct Marks : 5 Wrong Marks : 1**

**Question Key Details :**

Key	Value
Comprehension	Comp2

চিত্রটি লক্ষ্য করে প্রশ্নের উত্তর দাও .



পেন্টিং বা চিত্রটির বিষয়বস্তু কি?

1. পোরট্রেট
2. ল্যান্ডস্কেপ
3. নকল করে ভ্যাংচানো
4. লোককথা / উপকথা

Options :

485584144677. 1  
485584144678. 2  
485584144679. 3  
485584144680. 4

Question Number : 420 Question Id : 48558436170 Question Type : MCQ Option Shuffling : No Is Question Mandatory : No Calculator : None  
Response Time : N.A Think Time : N.A Minimum Instruction Time : 0

Correct Marks : 5 Wrong Marks : 1

Question Key Details :

Key	Value
Comprehension	Comp2

આપેલ ચિત્રને ઓળખી નીચેના પ્રશ્નનો જવાબ આપો.



પેઇન્ટિંગની કક્ષા શું છે ?

1. છબી ચીતરવાની કળા
2. વેન્ડસ્કેપ
3. કેરિકેચર
4. લોકવાર્તા

**Options :**

485584144677. 1  
485584144678. 2  
485584144679. 3  
485584144680. 4

**Question Number : 420 Question Id : 48558436170 Question Type : MCQ Option Shuffling : No Is Question Mandatory : No Calculator : None Response Time : N.A Think Time : N.A Minimum Instruction Time : 0**

**Correct Marks : 5 Wrong Marks : 1**

**Question Key Details :**

Key	Value
Comprehension	Comp2

ಬೆತ್ತವನ್ನು ವೀಕ್ಷಿಸಿ ಮತ್ತು ಕೆಳಗಿನ ಪ್ರಶ್ನೆಯನ್ನು ಉತ್ತರಿಸಿ:



ಬೆತ್ತಕಲೆಯ ವಿಷಯ ವಸ್ತುವೇನು?

1. ವ್ಯಕ್ತಿಚಿತ್ರಣ
2. ಭೂದೃಶ್ಯ
3. ವ್ಯಂಗ್ಯಚಿತ್ರ
4. ಜಾನಪದ ಕಥೆ

**Options :**

485584144677. 1  
485584144678. 2  
485584144679. 3  
485584144680. 4

**Question Number : 420 Question Id : 48558436170 Question Type : MCQ Option Shuffling : No Is Question Mandatory : No Calculator : None Response Time : N.A Think Time : N.A Minimum Instruction Time : 0**

**Correct Marks : 5 Wrong Marks : 1**

**Question Key Details :**

Key	Value
Comprehension	Comp2



ചിത്രം വീക്ഷിച്ച്, താഴെ നൽകിയിരിക്കുന്ന ചോദ്യങ്ങൾക്ക് ഉത്തരം എഴുതുക :



ഈ ചിത്രം എതു വിഭാഗത്തിൽ പെടുന്നു ?

1. പോട്ടറേറ്റ്
2. പ്രകൃതിദൃശ്യം
3. ക്ലാരികച്ചെൽ
4. നാടോടി കഥ

Options :

- 485584144677. 1
- 485584144678. 2
- 485584144679. 3
- 485584144680. 4

Question Number : 420 Question Id : 48558436170 Question Type : MCQ Option Shuffling : No Is Question Mandatory : No Calculator : None Response Time : N.A Think Time : N.A Minimum Instruction Time : 0

Correct Marks : 5 Wrong Marks : 1

Question Key Details :

Key	Value
Comprehension	Comp2

चरित प्रतिमा पाहून प्रश्नाचे उत्तर शोधा.



चित्राचा विषय मुद्दा कोणता आहे?

1. प्रोट्रेट
2. लॅन्डस्केप
3. कॅरियेचर
4. लोक कला

Options :

485584144677. 1  
485584144678. 2  
485584144679. 3  
485584144680. 4

Question Number : 420 Question Id : 48558436170 Question Type : MCQ Option Shuffling : No Is Question Mandatory : No Calculator : None  
Response Time : N.A Think Time : N.A Minimum Instruction Time : 0

Correct Marks : 5 Wrong Marks : 1

Question Key Details :

Key	Value
Comprehension	Comp2

ଚିତ୍ରଟିକୁ ଦେଖି ନିମ୍ନୋକ୍ତ ପ୍ରଶ୍ନର ଉତ୍ତର ଦିଅନ୍ତୁ ।



ପ୍ରତିଛବିକୁ ଦେଖିତୁ ଏବଂ ନିମ୍ନ ପ୍ରଶ୍ନର ଉତ୍ତର ଦିଅନ୍ତୁ।

1. ଚିତ୍ରଣ କା ଉଦ୍ଦେଶ୍ୟ
2. ଲେଖକଙ୍କ ନାମ
3. ଚିତ୍ରଣର ପ୍ରାନ୍ତ
4. ଲେଖକଙ୍କ ଜାତି

**Options :**

- 485584144677. 1
- 485584144678. 2
- 485584144679. 3
- 485584144680. 4

**Question Number : 420 Question Id : 48558436170 Question Type : MCQ Option Shuffling : No Is Question Mandatory : No Calculator : None Response Time : N.A Think Time : N.A Minimum Instruction Time : 0**

**Correct Marks : 5 Wrong Marks : 1**

**Question Key Details :**

Key	Value
Comprehension	Comp2



पेंटिंग सा दिसा वस्तु कि चे?

1. चिंतनकारी
2. लेखमवेप
3. बेरीबेसर
4. लेख वगहटी

**Options :**

485584144677. 1

485584144678. 2

485584144679. 3

485584144680. 4

**Question Number : 420 Question Id : 48558436170 Question Type : MCQ Option Shuffling : No Is Question Mandatory : No Calculator : None Response Time : N.A Think Time : N.A Minimum Instruction Time : 0**

**Correct Marks : 5 Wrong Marks : 1**

**Question Key Details :**

Key	Value
Comprehension	Comp2

படத்தை கவனித்து பின்வரும் வினாக்களுக்கு விடையளி:



இந்த ஓவியத்தின் பாடப்பொருள் யாது?

1. சொல்லோவிமுறை
2. நிலப்பரப்பு
3. கேலி ஓவியமுறை
4. நாட்டுப்புறக் கதை

Options :

485584144677. 1  
485584144678. 2  
485584144679. 3  
485584144680. 4

Question Number : 420 Question Id : 48558436170 Question Type : MCQ Option Shuffling : No Is Question Mandatory : No Calculator : None  
Response Time : N.A Think Time : N.A Minimum Instruction Time : 0

Correct Marks : 5 Wrong Marks : 1

Question Key Details :

Key	Value
Comprehension	Comp2

చిత్రాన్ని గమనిస్తూ క్రింది ప్రశ్నకు సమాధానం రాయండి.



చిత్రలేఖనం యొక్క విషయం గుర్తించండి

1. దోస్తాయిచార్
2. లాండ్స్కేప్
3. కారికేచర్
4. ఫాక శుల్

Options :

485584144677. 1  
485584144678. 2  
485584144679. 3  
485584144680. 4

Question Number : 420 Question Id : 48558436170 Question Type : MCQ Option Shuffling : No Is Question Mandatory : No Calculator : None  
Response Time : N.A Think Time : N.A Minimum Instruction Time : 0

Correct Marks : 5 Wrong Marks : 1

Question Key Details :

Key	Value
Comprehension	Comp2

تصویر کا مشاہدہ کریں اور مندرجہ ذیل سوالات کا جوابات دیں :

پینٹنگ کا موضوع کیا ہے ؟

1. پورٹریٹ
2. لینڈ سکیپ
3. کجری کچر
4. لوک کہانی

**Options :**

485584144677. 1  
485584144678. 2  
485584144679. 3  
485584144680. 4

**Sub-Section Number :** 4  
**Sub-Section Id :** 4855842813  
**Question Shuffling Allowed :** Yes  
**Is Section Default? :** null

**Question Number :** 421 **Question Id :** 48558436171 **Question Type :** MCQ **Option Shuffling :** No **Is Question Mandatory :** No **Calculator :** None  
**Response Time :** N.A **Think Time :** N.A **Minimum Instruction Time :** 0

**Correct Marks :** 5 **Wrong Marks :** 1

**Question Key Details :**

Key	Value
Comprehension	MCQ2

Identify the correct sequence of Indian painting Schools according to their origin.

- A. Mughal School
- B. Rajasthani School
- C. Deccani School
- D. Pahari School
- E. Bengal School

Choose the correct answer from the options given below:

- 1. A, B, C, D, E
- 2. B, A, C, D, E
- 3. C, D, B, A, E
- 4. A, C, D, B, E

**Options :**

485584144681. 1  
485584144682. 2  
485584144683. 3  
485584144684. 4

**Question Number :** 421 **Question Id :** 48558436171 **Question Type :** MCQ **Option Shuffling :** No **Is Question Mandatory :** No **Calculator :** None  
**Response Time :** N.A **Think Time :** N.A **Minimum Instruction Time :** 0

**Correct Marks :** 5 **Wrong Marks :** 1

**Question Key Details :**

Key	Value
Comprehension	MCQ2

भारतीय लघु चित्र शैलियों को उनकी उत्पत्ति के अनुसार सही क्रम में पहचानिए:

- A. मुगल शैली
- B. राजस्थानी शैली
- C. दक्कनी शैली
- D. पहाड़ी शैली
- E. बंगाल शैली

नीचे दिए गए विकल्पों में से सही उत्तर चुनिए:

1. A, B, C, D, E

2. B, A, C, D, E

3. C, D, B, A, E

4. A, C, D, B, E

**Options :**

485584144681. 1

485584144682. 2

485584144683. 3

485584144684. 4

**Question Number : 421 Question Id : 48558436171 Question Type : MCQ Option Shuffling : No Is Question Mandatory : No Calculator : None Response Time : N.A Think Time : N.A Minimum Instruction Time : 0**

**Correct Marks : 5 Wrong Marks : 1**

**Question Key Details :**

Key	Value
Comprehension	MCQ2

ভাৰতীয় চিত্ৰশিল্পৰ বিদ্যালয় বোৰ মূল সৃষ্টিৰ লগত মিলোৱা ?

- A. মুগল স্কুল
- B. ৰাজস্থানী স্কুল
- C. ডেক্কানী স্কুল
- D. পাহাৰী স্কুল
- E. বেংগল স্কুল

1. A, B, C, D, E

2. B, A, C, D, E

3. C, D, B, A, E

4. A, C, D, B, E

**Options :**

485584144681. 1

485584144682. 2

485584144683. 3

485584144684. 4

**Question Number : 421 Question Id : 48558436171 Question Type : MCQ Option Shuffling : No Is Question Mandatory : No Calculator : None Response Time : N.A Think Time : N.A Minimum Instruction Time : 0**

**Correct Marks : 5 Wrong Marks : 1**

**Question Key Details :**

Key	Value
Comprehension	MCQ2



ইন্ডিয়ান পেন্টিং স্কুলগুলোকে তাদের উৎস অনুযায়ী ক্রমান্বয়ে সাজাও।

- A. মুঘল স্কুল
- B. রাজস্থানী স্কুল
- C. ডেকানী স্কুল
- D. পাচরী স্কুল
- E. বেঙ্গল স্কুল

নিম্নলিখিত অপশন থেকে সঠিক উত্তর দাও:

1. A, B, C, D, E

2. B, A, C, D, E

3. C, D, B, A, E

4. A, C, D, B, E

**Options :**

- 485584144681. 1
- 485584144682. 2
- 485584144683. 3
- 485584144684. 4

**Question Number : 421 Question Id : 48558436171 Question Type : MCQ Option Shuffling : No Is Question Mandatory : No Calculator : None Response Time : N.A Think Time : N.A Minimum Instruction Time : 0**

**Correct Marks : 5 Wrong Marks : 1**

**Question Key Details :**

Key	Value
Comprehension	MCQ2

भारतीय पेंटिंग स्कूलों ने तेना उद्भवनी क्रम मां गीठवो.

- A. मुघल स्कूल
- B. राजस्थानी स्कूल
- C. डेकननी स्कूल
- D. पाचरी स्कूल
- E. बंगाल स्कूल

नीचे आपेवा विकल्पोंमांथी साथी जवाब पसंद करो.

1. A, B, C, D, E

2. B, A, C, D, E

3. C, D, B, A, E

4. A, C, D, B, E

**Options :**

- 485584144681. 1
- 485584144682. 2
- 485584144683. 3
- 485584144684. 4

**Question Number : 421 Question Id : 48558436171 Question Type : MCQ Option Shuffling : No Is Question Mandatory : No Calculator : None Response Time : N.A Think Time : N.A Minimum Instruction Time : 0**

**Correct Marks : 5 Wrong Marks : 1**

**Question Key Details :**

Key	Value
Comprehension	MCQ2



भारतीय चित्रकला शाळांचा आरंभ अनुसरून त्यांचा अचूक क्रम लावा.

- मुघल शाळा
- राजस्थानी शाळा
- दख्खनी शाळा
- पचरी शाळा
- बंगाल शाळा

खालील पर्यायातून अचूक उत्तर शोधा.

- A, B, C, D, E
- B, A, C, D, E
- C, D, B, A, E
- A, C, D, B, E

**Options :**

485584144681. 1
485584144682. 2
485584144683. 3
485584144684. 4

**Question Number : 421 Question Id : 48558436171 Question Type : MCQ Option Shuffling : No Is Question Mandatory : No Calculator : None Response Time : N.A Think Time : N.A Minimum Instruction Time : 0**

**Correct Marks : 5 Wrong Marks : 1**

**Question Key Details :**

Key	Value
Comprehension	MCQ2

ଭାରତୀୟ ଚିତ୍ର ସୁଲଭ ଯଠିକ ପ୍ରମା ତାଙ୍କର ଉତ୍ତମ ଉଦାହରଣ ଶୋଭାପୁ.

- ମୁଗଲ ସୁଲ
- ରାଜସ୍ଥାନୀ ସୁଲ
- ଦେକାନୀ ସୁଲ
- ପାଞ୍ଚରୀ ସୁଲ
- ବେଙ୍ଗଲ ସୁଲ

ଦିଆଯାଇଥିବା ବିକଳ୍ପରୁ ଯଠିକ ଉତ୍ତରଟି ଚାହୁଁ.

- A, B, C, D, E
- B, A, C, D, E
- C, D, B, A, E
- A, C, D, B, E

**Options :**

485584144681. 1
485584144682. 2
485584144683. 3
485584144684. 4

**Question Number : 421 Question Id : 48558436171 Question Type : MCQ Option Shuffling : No Is Question Mandatory : No Calculator : None Response Time : N.A Think Time : N.A Minimum Instruction Time : 0**

**Correct Marks : 5 Wrong Marks : 1**

**Question Key Details :**





<b>Key</b>	<b>Value</b>
Comprehension	MCQ2

Identify the correct sequence of etching print making process.

- A. Cover metal plate with ground
- B. Drawing with a pointed etching needle
- C. Dipping plate in nitric acid
- D. Clean the remaining ground off the plate
- E. Plate is inked for taking print

Choose the correct answer from the options given below:

- 1. B, A, C, D, E
- 2. A, B, C, D, E
- 3. B, D, A, C, E
- 4. C, B, D, A, E

**Options :**

- 485584144685. 1
- 485584144686. 2
- 485584144687. 3
- 485584144688. 4

**Question Number : 422 Question Id : 48558436172 Question Type : MCQ Option Shuffling : No Is Question Mandatory : No Calculator : None Response Time : N.A Think Time : N.A Minimum Instruction Time : 0**

**Correct Marks : 5 Wrong Marks : 1**

**Question Key Details :**

<b>Key</b>	<b>Value</b>
Comprehension	MCQ2

एचिंग प्रिंट मेकिंग प्रक्रिया के सही क्रम को पहचानिए:

- A. धातु प्लेट को ग्राउंड को लेपकर ढकना
- B. नुकीली एचिंग सुई से चित्र या आरेख बनाना
- C. नाइट्रिक एसिड में प्लेट को डुबाना
- D. प्लेट के बचे हुए भाग को साफ़ करना
- E. छपाई करने के लिए प्लेट पर स्याही लगाना

नीचे दिए गए विकल्पों में से सही उत्तर चुनिए:

- 1. B, A, C, D, E
- 2. A, B, C, D, E
- 3. B, D, A, C, E
- 4. C, B, D, A, E

**Options :**

- 485584144685. 1
- 485584144686. 2
- 485584144687. 3
- 485584144688. 4

**Question Number : 422 Question Id : 48558436172 Question Type : MCQ Option Shuffling : No Is Question Mandatory : No Calculator : None Response Time : N.A Think Time : N.A Minimum Instruction Time : 0**

**Correct Marks : 5 Wrong Marks : 1**

**Question Key Details :**

<b>Key</b>	<b>Value</b>
Comprehension	MCQ2

প্রিন্টিং পদ্ধতির শুদ্ধ ক্রমত মিলোৱা ।

- A. মাটিৰ সৈতে ধাতৱিক প্ৰেট
- B. পয়ন্টেড ইচিএং বেঞ্জীৰে কৰা অংকন
- C. নাইট্ৰিক এছিডত ডিপ্লিং প্ৰেট
- D. প্ৰেটৰ বাকি অংশ চাফা কৰা
- E. প্ৰিন্টৰ বাবে প্লেটত চিয়াহী লগোৱা

1. B, A, C, D, E

2. A, B, C, D, E

3. B, D, A, C, A

4. C, B, D, A, E

Options :

- 485584144685. 1
- 485584144686. 2
- 485584144687. 3
- 485584144688. 4

Question Number : 422 Question Id : 48558436172 Question Type : MCQ Option Shuffling : No Is Question Mandatory : No Calculator : None Response Time : N.A Think Time : N.A Minimum Instruction Time : 0

Correct Marks : 5 Wrong Marks : 1

Question Key Details :

Key	Value
Comprehension	MCQ2

প্ৰিন্ট মেকিং প্ৰসেসৰ (কাগজ তৈৰীৰ প্ৰক্ৰিয়া) নকশা বানানোৱাৰ সঠিক ক্ৰমটি নিৰ্ধাৰন কৰ .

- A. মাটিতে ধাতব প্ৰেটটিকে ঢেকে দিতে হবে
- B. একটা পয়ন্টেড নকশা তোলা সূচ দিয়ে আঁকতে হবে
- C. প্ৰেটটিকে নাইট্ৰিক অ্যাসিডে ডুবিয়ে রাখতে হবে
- D. বাকী অংশটিকে পৰিষ্কাৰ কৰতে হবে
- E. প্ৰেটে কালি মাখানো হবে প্ৰিন্ট নেওয়ার জন্য

সঠিক উত্তৰটি লেখ:

1. B, A, C, D, E

2. A, B, C, D, E

3. B, D, A, C, A

4. C, B, D, A, E

Options :

- 485584144685. 1
- 485584144686. 2
- 485584144687. 3
- 485584144688. 4

Question Number : 422 Question Id : 48558436172 Question Type : MCQ Option Shuffling : No Is Question Mandatory : No Calculator : None Response Time : N.A Think Time : N.A Minimum Instruction Time : 0

Correct Marks : 5 Wrong Marks : 1

Question Key Details :

Key	Value
Comprehension	MCQ2

કોતરણી પ્રિન્ટ બનાવવાની પ્રક્રિયાની સાચી શ્રેણી ઓળખો.

- A. ઝીંશા ભૂકા વડે મેટલ ખેટને આવરી લેવું.
- B. અણીદાર કોતરણીવાળી સોયથી દોરવું.
- C. નાઈટ્રિક એસિડમાં ખેટને ડુબાડવું.
- D. ખેટમાંથી બાકી રહી ગયેલ ભૂકાને સાફ કરો.
- E. પ્રિન્ટ લેવા માટે ખેટમાં શાહી લગાવવામાં આવે છે.

નીચે આપેલા વિકલ્પોમાંથી સાચો જવાબ પસંદ કરો.

1. B, A, C, D, E

2. A, B, C, D, E

3. B, D, A, C, A

4. C, B, D, A, E

**Options :**

485584144685. 1

485584144686. 2

485584144687. 3

485584144688. 4

**Question Number : 422 Question Id : 48558436172 Question Type : MCQ Option Shuffling : No Is Question Mandatory : No Calculator : None Response Time : N.A Think Time : N.A Minimum Instruction Time : 0**

**Correct Marks : 5 Wrong Marks : 1**

**Question Key Details :**

Key	Value
Comprehension	MCQ2

કેત્રીદ મુદ્દણ મારઢુવ પ્રક્રિયેયુ સરયુદ અનુક્રમણેકેયનુ ગુરુત્રીસે.

- A. લેલુદ તક્ષીયનુ મુળેનેલગીઢુવુદુ
- B. જુલુવ કક્ષુવ સુલજીગેલુદ ઢીત્રુ લીઢીસુવુદુ
- C. નેટ્રીક એસીઢી તક્ષીયનુ મુલુગીસુવુદુ
- D. તક્ષીયલે લુલેલુરુવ મુલુનુ શુલેગેલુસુવુદુ
- E. મુદ્દણ તેગેયલુ તક્ષીયનુ વળેલુકરીસુવુદુ

કેલેગે નીલેલુરુવ અયુલેગેલુદ સરયુદ લુત્રુવનુ અરીસે.

1. B, A, C, D, E

2. A, B, C, D, E

3. B, D, A, C, A

4. C, B, D, A, E

**Options :**

485584144685. 1

485584144686. 2

485584144687. 3

485584144688. 4

**Question Number : 422 Question Id : 48558436172 Question Type : MCQ Option Shuffling : No Is Question Mandatory : No Calculator : None Response Time : N.A Think Time : N.A Minimum Instruction Time : 0**

**Correct Marks : 5 Wrong Marks : 1**

**Question Key Details :**

Key	Value
Comprehension	MCQ2



എച്ചിംഗ് ചിത്രങ്ങൾ നിർമ്മിക്കുന്ന പ്രവർത്തനങ്ങളുടെ ശരിയായ ക്രമം കണ്ടെത്തുക

- A. ലോഹ തകിടിൽ നിറം പൂശുക
- B. എച്ചിംഗ് സൂചി കൊണ്ട് ചിത്രം വരയ്ക്കുക
- C. തകിട് നൈട്രിക് ആസിഡിൽ മുക്കി വെയ്ക്കുക
- D. തകിടിലെ ബാക്കിയുള്ള നിറം കഴുകി കളയുക
- E. പ്രിന്റുകൾ എടുക്കാൻ തകിടിൽ മിഷി പുരട്ടുക

താഴെ കൊടുത്തിരിക്കുന്നവയിൽ നിന്ന് ശരിയായ ഉത്തരം കണ്ടെത്തുക:

- 1. B, A, C, D, E
- 2. A, B, C, D, E
- 3. B, D, A, C, A
- 4. C, B, D, A, E

Options :

- 485584144685. 1
- 485584144686. 2
- 485584144687. 3
- 485584144688. 4

Question Number : 422 Question Id : 48558436172 Question Type : MCQ Option Shuffling : No Is Question Mandatory : No Calculator : None Response Time : N.A Think Time : N.A Minimum Instruction Time : 0

Correct Marks : 5 Wrong Marks : 1

Question Key Details :

Key	Value
Comprehension	MCQ2

नक्षीकाम कलेच्या बनवण्याचा योग्य क्रम ओळखा

- A. धातू ची चकती जमिनीने झाकून ठेवा
- B. टोकदार कोरिख सुई सह रेखाचित्र आखा
- C. नायट्रिक आम्लात चकती बुडवा
- D. चकती वरून उर्वरित माती स्वच्छ करा
- E. प्रिंट घेण्यासाठी चकतीला माती शाई लावली जाते

खालील पर्यायातून अचूक उत्तर शोधा.

- 1. B, A, C, D, E
- 2. A, B, C, D, E
- 3. B, D, A, C, A
- 4. C, B, D, A, E

Options :

- 485584144685. 1
- 485584144686. 2
- 485584144687. 3
- 485584144688. 4

Question Number : 422 Question Id : 48558436172 Question Type : MCQ Option Shuffling : No Is Question Mandatory : No Calculator : None Response Time : N.A Think Time : N.A Minimum Instruction Time : 0

Correct Marks : 5 Wrong Marks : 1

Question Key Details :

Key	Value
Comprehension	MCQ2

ਬਰਿਕ ਕੁਮਾਰ ਆਖਾਨੇ ਖਰਿਯਾ ਪੁੱਛ ਗੇਥਿਯਾ ਪੁੱਛਿਆ ਕਾਛੂ।

- A. ਗੇਥਿਯਾ ਪੁੱਛ ਗੇਥਿਯਾ ਕੇਥਿਯਾ
- B. ਗੇਥਿਯਾ ਪੁੱਛ ਗੇਥਿਯਾ ਕੇਥਿਯਾ
- C. ਗੇਥਿਯਾ ਪੁੱਛ ਗੇਥਿਯਾ ਕੇਥਿਯਾ
- D. ਗੇਥਿਯਾ ਪੁੱਛ ਗੇਥਿਯਾ ਕੇਥਿਯਾ
- E. ਗੇਥਿਯਾ ਪੁੱਛ ਗੇਥਿਯਾ ਕੇਥਿਯਾ

ਬਿਯਾਯਾਯਾਯਾ ਕੇਥਿਯਾ ਕੇਥਿਯਾ ਕੇਥਿਯਾ ਕੇਥਿਯਾ ਕੇਥਿਯਾ।

- 1. B, A, C, D, E
- 2. A, B, C, D, E
- 3. B, D, A, C, A
- 4. C, B, D, A, E

Options :

- 485584144685. 1
- 485584144686. 2
- 485584144687. 3
- 485584144688. 4

Question Number : 422 Question Id : 48558436172 Question Type : MCQ Option Shuffling : No Is Question Mandatory : No Calculator : None Response Time : N.A Think Time : N.A Minimum Instruction Time : 0

Correct Marks : 5 Wrong Marks : 1

Question Key Details :

Key	Value
Comprehension	MCQ2

ਐਚਿੰਗ ਪਿੰਟ ਬਣਾਉਣ ਦੀ ਪ੍ਰਕਿਰਿਆ ਦੀ ਸਹੀ ਲੜੀ ਪਛਾਣੋ।

- A. ਧਾਤ ਦੀ ਥੱਲੇ ਵਾਲੀ ਪਲੇਟ
- B. ਇੱਕ ਨੁਕੀਲੀ ਐਚਿੰਗ ਸੂਈ ਨਾਲ ਡਰਾਈਂਗ
- C. ਪਲੇਟ ਨੂੰ ਨਾਈਟਰਿਕ ਤੇਜਾਬ ਵਿੱਚ ਡੁਬੋਣਾ
- D. ਪਲੇਟ ਦੇ ਥੱਲੇ ਨੂੰ ਸਾਫ਼ ਕਰੋ
- E. ਪਿੰਟ ਲੇਟ ਲਈ ਪਲੇਟ ਵਿੱਚ ਸਿਆਹੀ ਡਰੀ ਗਈ

ਹੇਠਾਂ ਦਿੱਤੇ ਵਿਕਲਪਾਂ ਵਿੱਚੋਂ ਸਹੀ ਉੱਤਰ ਚੁਣੋ:

- 1. B, A, C, D, E
- 2. A, B, C, D, E
- 3. B, D, A, C, A
- 4. C, B, D, A, E

Options :

- 485584144685. 1
- 485584144686. 2
- 485584144687. 3
- 485584144688. 4

Question Number : 422 Question Id : 48558436172 Question Type : MCQ Option Shuffling : No Is Question Mandatory : No Calculator : None Response Time : N.A Think Time : N.A Minimum Instruction Time : 0

Correct Marks : 5 Wrong Marks : 1

Question Key Details :

Key	Value
-----	-------

எட்சிங் அச்சிடும் நடைமுறையின் சரியான அடுக்கு வரிசையைக் கண்டறிக.

- உலோகத்தட்டை தரைமீது மூடி வைக்கவும்
- முனை கொண்ட எட்சிங் ஊசி கொண்டு வரைதல்
- கூறிய அரிக்கும் ஊசி கொண்டு வரைதல்
- தட்டிலிருந்து எஞ்சிய மண்ணை சுத்தம் செய்தல்
- ஆச்செடுக்க தட்டிற்கு மை பூசுதல்

கீழே தரப்பட்டுள்ள வாய்ப்புகளில் இருந்து சரியான விடையைத் தேர்ந்தெடுக்கவும்:

- B, A, C, D, E
- A, B, C, D, E
- B, D, A, C, E
- C, B, D, A, E

Options :

485584144685. 1
485584144686. 2
485584144687. 3
485584144688. 4

Question Number : 422 Question Id : 48558436172 Question Type : MCQ Option Shuffling : No Is Question Mandatory : No Calculator : None Response Time : N.A Think Time : N.A Minimum Instruction Time : 0

Correct Marks : 5 Wrong Marks : 1

Question Key Details :

Key	Value
Comprehension	MCQ2

எபிங் ப்ரிங் மேகிங் ப்ரூயு யூக்யு ஸ்ரென் ட்ரூயு ஸ்ட்ரிங்.

- ஓவாஸு ஸலகஸு ஸ்லக் கப்பூண்டி
- கீனால எபிங் ஸூடிக் ரீயூடம்
- ஸ்ட்ரீக் யூஸிடில் ஸ்ட்ரீஸ் மூண்டம்
- ஸ்ட்ரீக் யூக்யு மிஸிஸி ஸ்ட்ரீக் ஸ்ட்ரீக் ஸ்ட்ரீக்
- ப்ரிங் ஸ்ட்ரீக் ஸ்ட்ரீக் ஸ்ட்ரீக் ஸ்ட்ரீக்

கீழே தரப்பட்டுள்ள வாய்ப்புகளில் இருந்து சரியான விடையைத் தேர்ந்தெடுக்கவும்:

- B, A, C, D, E
- A, B, C, D, E
- B, D, A, C, A
- C, B, D, A, E

Options :

485584144685. 1
485584144686. 2
485584144687. 3
485584144688. 4

Question Number : 422 Question Id : 48558436172 Question Type : MCQ Option Shuffling : No Is Question Mandatory : No Calculator : None Response Time : N.A Think Time : N.A Minimum Instruction Time : 0

Correct Marks : 5 Wrong Marks : 1

Question Key Details :

Key	Value
Comprehension	MCQ2

نقائے بنانے کے طریقے کی درست نشاندہی کیجئے :

- A. دھات کی پلٹ کو زمین پر ڈھائیں  
B. لوہیلی نقائی سولی سے جاکہ کٹی کریں  
C. تھری ایڈ میں ڈبانا پلٹ  
D. زمین پر بجی ہوئی چیزوں سے پلٹیں کو صاف کریں  
E. پلٹ کو پورٹ کرنے کے لئے رنگا

نیچے سے درست جواب کا انتخاب کریں :

1. B, A, C, D, E

2. A, B, C, D, E

3. B, D, A, C, A

4. C, B, D, A, E

**Options :**

485584144685. 1

485584144686. 2

485584144687. 3

485584144688. 4

**Question Number : 423 Question Id : 48558436173 Question Type : MCQ Option Shuffling : No Is Question Mandatory : No Calculator : None Response Time : N.A Think Time : N.A Minimum Instruction Time : 0**

**Correct Marks : 5 Wrong Marks : 1**

**Question Key Details :**

Key	Value
Comprehension	MCQ2

Which among the following are the artwork of Rajsthani School of Miniature Painting.

- A. Bani Thani  
B. Maru Ragini  
C. Chand Bibi Playing Polo  
D. Ragini Pathamsika  
E. Krishna on Swing

Choose the correct answer from the options given below:

1. A, D, E

2. B, D, E

3. A, C, E

4. A, B, E

**Options :**

485584144689. 1

485584144690. 2

485584144691. 3

485584144692. 4

**Question Number : 423 Question Id : 48558436173 Question Type : MCQ Option Shuffling : No Is Question Mandatory : No Calculator : None Response Time : N.A Think Time : N.A Minimum Instruction Time : 0**

**Correct Marks : 5 Wrong Marks : 1**

**Question Key Details :**

Key	Value
Comprehension	MCQ2

निम्न में से कौन से लघु चित्र की राजस्थानी शैली के कला कार्य हैं?

- A. बनी ठनी
- B. मारू रागिनी
- C. चाँद बीबी पोलो खेलते हुए
- D. रागिनी पथमसिका
- E. झूले पर कृष्ण

नीचे दिए गए विकल्पों में से सही उत्तर चुनिए:

1. A, D, E

2. B, D, E

3. A, C, E

4. A, B, E

**Options :**

- 485584144689. 1
- 485584144690. 2
- 485584144691. 3
- 485584144692. 4

**Question Number : 423 Question Id : 48558436173 Question Type : MCQ Option Shuffling : No Is Question Mandatory : No Calculator : None Response Time : N.A Think Time : N.A Minimum Instruction Time : 0**

**Correct Marks : 5 Wrong Marks : 1**

**Question Key Details :**

Key	Value
Comprehension	MCQ2

তলৰ কোনটো ৰাজস্থানী মিনি.এচিউৰ পেইন্টিংৰ শিল্প হয় ?

- A. বানী থানী
- B. মারু রাগিनी
- C. চান্দ বিবি প্লেয়িং পল
- D. রাগিनी পথমসিকা
- E. কৃষ্ণ অন শুইং

1. A, D, E

2. B, D, E

3. A, C, E

4. A, B, E

**Options :**

- 485584144689. 1
- 485584144690. 2
- 485584144691. 3
- 485584144692. 4

**Question Number : 423 Question Id : 48558436173 Question Type : MCQ Option Shuffling : No Is Question Mandatory : No Calculator : None Response Time : N.A Think Time : N.A Minimum Instruction Time : 0**

**Correct Marks : 5 Wrong Marks : 1**

**Question Key Details :**

Key	Value
Comprehension	MCQ2

রাজস্থানী ঘরানার ক্ষুদ্র সংস্করণের চিত্র কোনটি

- A. বানী ধানি
- B. মারু রাগিনী
- C. চাঁদ বিবি প্রেয়িং পোলো
- D. রাগিনী পঞ্চমশিকা
- E. কৃষ্ণ দোলনার ওপর

সঠিক উত্তরটি বেছে নাও চিহ্নিত কর :

1. A, D, E

2. B, D, E

3. A, C, E

4. A, B, E

**Options :**

- 485584144689. 1
- 485584144690. 2
- 485584144691. 3
- 485584144692. 4

**Question Number : 423 Question Id : 48558436173 Question Type : MCQ Option Shuffling : No Is Question Mandatory : No Calculator : None Response Time : N.A Think Time : N.A Minimum Instruction Time : 0**

**Correct Marks : 5 Wrong Marks : 1**

**Question Key Details :**

Key	Value
Comprehension	MCQ2

নীচে আপোষামাংথী কঠ কলাকারী রাজস্থানী বস্তুযিত্ত পেরন্টিসনী ঠ ?

- A. ধনী-ধনী
- B. মারু রাগিনী
- C. পীলী স্মৃতি যাঁদ পীলী
- D. রাগিনী পঞ্চমশিকা
- E. কৃষ্ণ ওপর কৃষ্ণ

নীচে আপোষা বিক্রয়োমাংথী সাযো জবাব পসঁদ কয়ে.

1. A, D, E

2. B, D, E

3. A, C, E

4. A, B, E

**Options :**

- 485584144689. 1
- 485584144690. 2
- 485584144691. 3
- 485584144692. 4

**Question Number : 423 Question Id : 48558436173 Question Type : MCQ Option Shuffling : No Is Question Mandatory : No Calculator : None Response Time : N.A Think Time : N.A Minimum Instruction Time : 0**

**Correct Marks : 5 Wrong Marks : 1**

**Question Key Details :**

Key	Value
Comprehension	MCQ2



ପୁଢ଼ିଲ କଳାକୃତୀ ମଧ୍ୟରାଜସ୍ଥାନୀ ଲଘୁ ଚିତ୍ରକଳା କୋଣରା ଆହେତା?

- A. ସାନୀ-ଧାନୀ
- B. ମାରୁ-ରାଗିଣୀ
- C. ପୋଲୋ ଶ୍ରେଣୀରୀ ଚାଁଦ ବ୍ରୀଦୀ
- D. ରାଗିଣୀ ପଥମସିକା
- E. ଶ୍ରୀପାଢ଼୍ୟାବରଲ କୃଷ୍ଣ

ଖାଲୀଲ ପର୍ଯ୍ୟାୟାତ୍ନ ଅଚୁକ ଉତ୍ତର ଶୋଧା.

- 1. A, D, E
- 2. B, D, E
- 3. A, C, E
- 4. A, B, E

**Options :**

- 485584144689. 1
- 485584144690. 2
- 485584144691. 3
- 485584144692. 4

**Question Number : 423 Question Id : 48558436173 Question Type : MCQ Option Shuffling : No Is Question Mandatory : No Calculator : None Response Time : N.A Think Time : N.A Minimum Instruction Time : 0**

**Correct Marks : 5 Wrong Marks : 1**

**Question Key Details :**

Key	Value
Comprehension	MCQ2

ନିମ୍ନ ମଧ୍ୟରେ କେଉଁ ଚିତ୍ରକୃତ କାଳରୀଣୀ ସୁଦ୍ଧା ଅପା ନିର୍ଦ୍ଦିଷ୍ଟର ପେଶିକା ଅଟେ ?

- A. କାଳୀ ଅକା
- B. ମାରୁ ରାଗିଣୀ
- C. ପୋଲୋ ଶ୍ରେଣୀରୀ ଚାଁଦ ବ୍ରୀଦୀ
- D. ରାଗିଣୀ ପଥମସିକା
- E. ଶ୍ରୀପାଢ଼୍ୟାବରଲ କୃଷ୍ଣ

ବିପାକାକାଶ୍ଵରୀ ବିକାଶ୍ଵରୀ ଅଠିକ କାଳରୀଣୀ କାଳରୀଣୀ:

- 1. A, D, E
- 2. B, D, E
- 3. A, C, E
- 4. A, B, E

**Options :**

- 485584144689. 1
- 485584144690. 2
- 485584144691. 3
- 485584144692. 4

**Question Number : 423 Question Id : 48558436173 Question Type : MCQ Option Shuffling : No Is Question Mandatory : No Calculator : None Response Time : N.A Think Time : N.A Minimum Instruction Time : 0**

**Correct Marks : 5 Wrong Marks : 1**

**Question Key Details :**

Key	Value
-----	-------



ਹੇਠ ਲਿਖਿਆਂ ਵਿੱਚੋਂ ਕਿਹੜੀਆਂ ਕਲਾਕਾਰੀਆਂ ਰਾਜਸਥਾਨੀ ਲਘੂ ਚਿੱਤਰ ਸਕੂਲ ਦੀਆਂ ਹਨ?

- A. ਬਾਨੀ-ਠਾਨੀ
- B. ਮਾਧੂ ਰਾਗਿਨੀ
- C. ਚੰਦ ਬੀਬੀ ਪੇਲੇ ਖੇਡਦੀ
- D. ਰਾਗਿਨੀ ਪਾਠ ਮਸੀਕਾ
- E. ਝੁਲੇ ਤੇ ਕ੍ਰਿਸ਼ਨ

ਹੇਠਾਂ ਦਿੱਤੇ ਵਿਕਲਪਾਂ ਵਿੱਚੋਂ ਸਹੀ ਉੱਤਰ ਚੁਣੋ:

- 1. A, D, E
- 2. B, D, E
- 3. A, C, E
- 4. A, B, E

Options :

- 485584144689. 1
- 485584144690. 2
- 485584144691. 3
- 485584144692. 4

Question Number : 423 Question Id : 48558436173 Question Type : MCQ Option Shuffling : No Is Question Mandatory : No Calculator : None Response Time : N.A Think Time : N.A Minimum Instruction Time : 0

Correct Marks : 5 Wrong Marks : 1

Question Key Details :

Key	Value
Comprehension	MCQ2

ਰਾਜਸਥਾਨੀ ਸਿੱਖਿਆਵਾਂ ਵਿੱਚੋਂ ਕਿਹੜੀਆਂ ਕਲਾਕਾਰੀਆਂ ਰਾਜਸਥਾਨੀ ਲਘੂ ਚਿੱਤਰ ਸਕੂਲ ਦੀਆਂ ਹਨ?

- A. ਪਾਨੀ ਤਾਨੀ
- B. ਮਧੂ ਰਾਗਿਨੀ
- C. ਸ਼ੰਦ ਬੀਬੀ ਪੇਲੇ ਖੇਡਦੀ
- D. ਰਾਗਿਨੀ ਪਠਾਮਸੀਕਾ
- E. ਝੁਲੇ ਤੇ ਕ੍ਰਿਸ਼ਨ

ਹੇਠਾਂ ਦਿੱਤੇ ਵਿਕਲਪਾਂ ਵਿੱਚੋਂ ਸਹੀ ਉੱਤਰ ਚੁਣੋ:

- 1. A, D, E
- 2. B, D, E
- 3. A, C, E
- 4. A, B, E

Options :

- 485584144689. 1
- 485584144690. 2
- 485584144691. 3
- 485584144692. 4

Question Number : 423 Question Id : 48558436173 Question Type : MCQ Option Shuffling : No Is Question Mandatory : No Calculator : None Response Time : N.A Think Time : N.A Minimum Instruction Time : 0

Correct Marks : 5 Wrong Marks : 1

Question Key Details :

Key	Value
Comprehension	MCQ2

క్రింది వాటిలో ఏ లఘు వర్ణ చిత్రము రాజస్థానీ పాఠశాల కళాకృతులకు చెందినది?

- A. బనీ తనీ
- B. మరు రాగిణి
- C. దాంద్ బిబి సాల్ ఆడడం
- D. రాగిణి పతాంశిక
- E. ఊయలపై కృష్ణుడు

క్రింది వాటిలో సరైన వికల్పాన్ని ఎంచుకోండి

- 1. A, D, E
- 2. B, D, E
- 3. A, C, E
- 4. A, B, E

Options :

- 485584144689. 1
- 485584144690. 2
- 485584144691. 3
- 485584144692. 4

Question Number : 423 Question Id : 48558436173 Question Type : MCQ Option Shuffling : No Is Question Mandatory : No Calculator : None Response Time : N.A Think Time : N.A Minimum Instruction Time : 0

Correct Marks : 5 Wrong Marks : 1

Question Key Details :

Key	Value
Comprehension	MCQ2

نیچے دیا ہوا راہنمائی اسکول جیوتی نیہ پیشگ کا کونسا آرٹ ورک ہے ؟

- A. بنی تہنی
- B. مرو رنگنی
- C. جاند نی بی بولو کیل رہی ہے
- D. رنگنی پنہم سیکا
- E. جھولے پر کرنا

نیچے سے درست جواب کا انتخاب کریں :

- 1. A, D, E
- 2. B, D, E
- 3. A, C, E
- 4. A, B, E

Options :

- 485584144689. 1
- 485584144690. 2
- 485584144691. 3
- 485584144692. 4

Question Number : 424 Question Id : 48558436174 Question Type : MCQ Option Shuffling : No Is Question Mandatory : No Calculator : None Response Time : N.A Think Time : N.A Minimum Instruction Time : 0

Correct Marks : 5 Wrong Marks : 1

Question Key Details :

Key	Value
Comprehension	MCQ2

Identify the correct sequence of Mughal rulers according to time period .

- A. Humayun
- B. Babur
- C. Akbar
- D. Jahangir
- E. Shah Jahan

Choose the correct answer from the options given below:

- 1. B, A, C, D, E
- 2. A, B, C, D, E
- 3. B, C, A, D, E
- 4. C, A, B, D, E

**Options :**

- 485584144693. 1
- 485584144694. 2
- 485584144695. 3
- 485584144696. 4

**Question Number : 424 Question Id : 48558436174 Question Type : MCQ Option Shuffling : No Is Question Mandatory : No Calculator : None Response Time : N.A Think Time : N.A Minimum Instruction Time : 0**

**Correct Marks : 5 Wrong Marks : 1**

**Question Key Details :**

Key	Value
Comprehension	MCQ2

मुगल शासकों को कालानुसार उनके सही क्रम को पहचानिए:

- A. हुमायूँ
- B. बाबर
- C. अकबर
- D. जहाँगीर
- E. शाहजहाँ

नीचे दिए गए विकल्पों में से सही उत्तर चुनिए:

- 1. B, A, C, D, E
- 2. A, B, C, D, E
- 3. B, C, A, D, E
- 4. C, A, B, D, E

**Options :**

- 485584144693. 1
- 485584144694. 2
- 485584144695. 3
- 485584144696. 4

**Question Number : 424 Question Id : 48558436174 Question Type : MCQ Option Shuffling : No Is Question Mandatory : No Calculator : None Response Time : N.A Think Time : N.A Minimum Instruction Time : 0**

**Correct Marks : 5 Wrong Marks : 1**

**Question Key Details :**

Key	Value
Comprehension	MCQ2

কোনটো অংশ বা কোনজন মোগল শাসকৰ শৰী শাসনকালমতে মিলোৱা ?

- A. হুমায়ুন
- B. বাবৰ
- C. আকবৰ
- D. জাহাংগীৰ
- E. শ্বাহ জাহান

1. B, A, C, D, E

2. A, B, C, D, E

3. B, C, A, D, E

4. C, A, B, D, E

**Options :**

- 485584144693. 1
- 485584144694. 2
- 485584144695. 3
- 485584144696. 4

**Question Number : 424 Question Id : 48558436174 Question Type : MCQ Option Shuffling : No Is Question Mandatory : No Calculator : None Response Time : N.A Think Time : N.A Minimum Instruction Time : 0**

**Correct Marks : 5 Wrong Marks : 1**

**Question Key Details :**

Key	Value
Comprehension	MCQ2

মুঘল শাসকদের সঠিক ক্রমটি চিহ্নিত কর

- A. হুমায়ুন
- B. বাবৰ
- C. আকবৰ
- D. জাহাঙ্গীৰ
- E. শাহজাহান

নিচের বিকল্প গুলি থেকে সঠিক উত্তর নির্বাচন কর.

1. B, A, C, D, E

2. A, B, C, D, E

3. B, C, A, D, E

4. C, A, B, D, E

**Options :**

- 485584144693. 1
- 485584144694. 2
- 485584144695. 3
- 485584144696. 4

**Question Number : 424 Question Id : 48558436174 Question Type : MCQ Option Shuffling : No Is Question Mandatory : No Calculator : None Response Time : N.A Think Time : N.A Minimum Instruction Time : 0**

**Correct Marks : 5 Wrong Marks : 1**

**Question Key Details :**

Key	Value
Comprehension	MCQ2

મુઘલ રાજાઓને તેમના સાચા સમયકાળના ક્રમમાં ગોઠવો.

- A. હુમાયુ
- B. બાબર
- C. અકબર
- D. જહાંગીર
- E. શાહજહાં

નીચે આપેલા વિકલ્પોમાંથી સાચો જવાબ પસંદ કરો.

- 1. B, A, C, D, E
- 2. A, B, C, D, E
- 3. B, C, A, D, E
- 4. C, A, B, D, E

**Options :**

- 485584144693. 1
- 485584144694. 2
- 485584144695. 3
- 485584144696. 4

**Question Number : 424 Question Id : 48558436174 Question Type : MCQ Option Shuffling : No Is Question Mandatory : No Calculator : None Response Time : N.A Think Time : N.A Minimum Instruction Time : 0**

**Correct Marks : 5 Wrong Marks : 1**

**Question Key Details :**

Key	Value
Comprehension	MCQ2

કાલાવર્ધિય પૃથ્વર મુખ્મલ્ આદલિતગારદ સરિયાદ અનુક્રમણિકೆಯનુ ગુરુતિસી.

- A. કુમ્ભાયુલ
- B. બાબર
- C. અકબર
- D. જહાંગીર
- E. શહજહાન

કલ્કને નીલરુવ અયુગલિંદ સરિયાદ ઇત્તરવનુ અરિસી.

- 1. B, A, C, D, E
- 2. A, B, C, D, E
- 3. B, C, A, D, E
- 4. C, A, B, D, E

**Options :**

- 485584144693. 1
- 485584144694. 2
- 485584144695. 3
- 485584144696. 4

**Question Number : 424 Question Id : 48558436174 Question Type : MCQ Option Shuffling : No Is Question Mandatory : No Calculator : None Response Time : N.A Think Time : N.A Minimum Instruction Time : 0**

**Correct Marks : 5 Wrong Marks : 1**

**Question Key Details :**

Key	Value
Comprehension	MCQ2

കാലഗണന പ്രകാരം മൂഗൾ ഭരണാധികാരികളെ ക്രമപ്പെടുത്തുക.

- A. ഹുമയൂൺ
- B. ബാബർ
- C. അക്ബർ
- D. ജഹാംഗീർ
- E. ഷാജഹാൻ

താഴെ കൊടുത്തിരിക്കുന്നവയിൽ നിന്ന് ശരിയായ ഉത്തരം കണ്ടെത്തുക

- 1. B, A, C, D, E
- 2. A, B, C, D, E
- 3. B, C, A, D, E
- 4. C, A, B, D, E

Options :

- 485584144693. 1
- 485584144694. 2
- 485584144695. 3
- 485584144696. 4

Question Number : 424 Question Id : 48558436174 Question Type : MCQ Option Shuffling : No Is Question Mandatory : No Calculator : None Response Time : N.A Think Time : N.A Minimum Instruction Time : 0

Correct Marks : 5 Wrong Marks : 1

Question Key Details :

Key	Value
Comprehension	MCQ2

मुधल राजांचा त्यांच्या कालखंडानुसार योग्य क्रम लावा

- A. हुमायुन
- B. बाबर
- C. अकबर
- D. जहाँगीर
- E. शहा जहान

खालील पर्यायातून अचूक उत्तर शोधा.

- 1. B, A, C, D, E
- 2. A, B, C, D, E
- 3. B, C, A, D, E
- 4. C, A, B, D, E

Options :

- 485584144693. 1
- 485584144694. 2
- 485584144695. 3
- 485584144696. 4

Question Number : 424 Question Id : 48558436174 Question Type : MCQ Option Shuffling : No Is Question Mandatory : No Calculator : None Response Time : N.A Think Time : N.A Minimum Instruction Time : 0

Correct Marks : 5 Wrong Marks : 1

Question Key Details :

Key	Value
Comprehension	MCQ2

ਗੋਰਾਕਸ਼ ਭਾਵਨਾ ਸਮਝ ਕੇ ਅਨੁਸਾਰੀ ਚੋਣ ਕਰੋ।

- A. ਚੁੱਕੜੂਲ
- B. ਗੋਰਾ
- C. ਚੁੱਕੜੂਲ
- D. ਗੋਰਾਛੀ
- E. ਗੋਰਾ ਜੀ

ਗੋਰਾਕਸ਼ ਭਾਵਨਾ ਸਮਝ ਕੇ ਚੁੱਕੜੂਲ ਚੁਣੋ:

- 1. B, A, C, D, E
- 2. A, B, C, D, E
- 3. B, C, A, D, E
- 4. C, A, B, D, E

Options :

- 485584144693. 1
- 485584144694. 2
- 485584144695. 3
- 485584144696. 4

Question Number : 424 Question Id : 48558436174 Question Type : MCQ Option Shuffling : No Is Question Mandatory : No Calculator : None Response Time : N.A Think Time : N.A Minimum Instruction Time : 0

Correct Marks : 5 Wrong Marks : 1

Question Key Details :

Key	Value
Comprehension	MCQ2

ਮੁਗਲ ਸਾਸਕਾਂ ਨੂੰ ਉਹਨਾਂ ਦੇ ਕਾਲ ਮੁਤਾਬਿਕ ਪਛਾਣੋ।

- A. ਹਮੀਦ
- B. ਬਾਬਰ
- C. ਅਕਬਰ
- D. ਜਹਾਂਗੀਰ
- E. ਸ਼ਾਹ ਜਹਾਂ

ਹੇਠਾਂ ਦਿੱਤੇ ਵਿਕਲਪਾਂ ਵਿੱਚੋਂ ਸਹੀ ਉੱਤਰ ਚੁਣੋ:

- 1. B, A, C, D, E
- 2. A, B, C, D, E
- 3. B, C, A, D, E
- 4. C, A, B, D, E

Options :

- 485584144693. 1
- 485584144694. 2
- 485584144695. 3
- 485584144696. 4

Question Number : 424 Question Id : 48558436174 Question Type : MCQ Option Shuffling : No Is Question Mandatory : No Calculator : None Response Time : N.A Think Time : N.A Minimum Instruction Time : 0

Correct Marks : 5 Wrong Marks : 1

Question Key Details :

Key	Value
-----	-------

காலகட்டத்தின் அடிப்படையில் முகலாய மன்னர்களின் சரியான அடுக்கு வரிசையைக் கண்டறிக.

- A. ஹுமாயூன்
- B. பாபர்
- C. அக்பர்
- D. ஜஹாங்கீர்
- E. ஷாஜஹான்

கீழே தரப்பட்டுள்ள வாய்ப்புகளில் இருந்து சரியான விடையைத் தேர்ந்தெடுக்கவும்:

- 1. B, A, C, D, E
- 2. A, B, C, D, E
- 3. B, C, A, D, E
- 4. C, A, B, D, E

**Options :**

- 485584144693. 1
- 485584144694. 2
- 485584144695. 3
- 485584144696. 4

**Question Number : 424 Question Id : 48558436174 Question Type : MCQ Option Shuffling : No Is Question Mandatory : No Calculator : None Response Time : N.A Think Time : N.A Minimum Instruction Time : 0**

**Correct Marks : 5 Wrong Marks : 1**

**Question Key Details :**

Key	Value
Comprehension	MCQ2

வாரி வாரி நமஸூலஸு பஹீ மூஸுல் ராஜூல வருஸஸு குரூஞ்சுண்டி

- A. ஹுமாயூன்
- B. பாபர்
- C. அக்பர்
- D. ஜஹாங்கீர்
- E. ஷாஜஹான்

கூரூடி வாஹீல் ஸரூஸ விஸூலூஸு ஸஞ்சுண்டி

- 1. B, A, C, D, E
- 2. A, B, C, D, E
- 3. B, C, A, D, E
- 4. C, A, B, D, E

**Options :**

- 485584144693. 1
- 485584144694. 2
- 485584144695. 3
- 485584144696. 4

**Question Number : 424 Question Id : 48558436174 Question Type : MCQ Option Shuffling : No Is Question Mandatory : No Calculator : None Response Time : N.A Think Time : N.A Minimum Instruction Time : 0**

**Correct Marks : 5 Wrong Marks : 1**

**Question Key Details :**

Key	Value
Comprehension	MCQ2



مغل حکمرانوں کو ان کے مدت حکمرانی کے مطابق صحیح ترتیب کی نشاندہی کریں :

- A. ہمایوں  
B. بہادر  
C. لکھنؤ  
D. جہانگیر  
E. شاہ جہاں

نیچے سے درست جواب کا انتخاب کریں :

1. B, A, C, D, E  
2. A, B, C, D, E  
3. B, C, A, D, E  
4. C, A, B, D, E

**Options :**

485584144693. 1  
485584144694. 2  
485584144695. 3  
485584144696. 4

Question Number : 425 Question Id : 48558436175 Question Type : MCQ Option Shuffling : No Is Question Mandatory : No Calculator : None Response Time : N.A Think Time : N.A Minimum Instruction Time : 0

Correct Marks : 5 Wrong Marks : 1

**Question Key Details :**

Key	Value
Comprehension	MCQ2

Identify the correct sequence of painting according to their time period.

- A. Krishna lifts Mount Govardhan  
B. Raga Megha  
C. Rama's Marriage  
D. Birth of Mahavir  
E. Kaliya Mardana

Choose the correct answer from the options given below:

1. A, B, C, D, E  
2. B, A, C, E, D  
3. A, E, B, D, C  
4. D, B, A, E, C

**Options :**

485584144697. 1  
485584144698. 2  
485584144699. 3  
485584144700. 4

Question Number : 425 Question Id : 48558436175 Question Type : MCQ Option Shuffling : No Is Question Mandatory : No Calculator : None Response Time : N.A Think Time : N.A Minimum Instruction Time : 0

Correct Marks : 5 Wrong Marks : 1

**Question Key Details :**

Key	Value
Comprehension	MCQ2

चित्रों को उनके कालानुसार सही क्रम में पहचानिए:

- A. कृष्ण गोवर्धन पर्वत उठाते हुए
- B. राग मेघा
- C. राम का विवाह
- D. महावीर का जन्म
- E. कालिया मर्दन

नीचे दिए गए विकल्पों में से सही उत्तर चुनिए:

- 1. A, B, C, D, E
- 2. B, A, C, E, D
- 3. A, E, B, D, C
- 4. D, B, A, E, C

**Options :**

- 485584144697. 1
- 485584144698. 2
- 485584144699. 3
- 485584144700. 4

**Question Number : 425 Question Id : 48558436175 Question Type : MCQ Option Shuffling : No Is Question Mandatory : No Calculator : None Response Time : N.A Think Time : N.A Minimum Instruction Time : 0**

**Correct Marks : 5 Wrong Marks : 1**

**Question Key Details :**

Key	Value
Comprehension	MCQ2

চিত্রশিল্পসমূহ সময়ের লগত মিনাই শুদ্ধ উত্তর দিয়া :

- A. কৃষ্ণই গোবর্ধন পর্বত দাউছিল
- B. বাগা মেঘা
- C. রামর বিবাহ
- D. মহাবীরর জন্ম
- E. কালিন্দা মর্দন

- 1. A, B, C, D, E
- 2. B, A, C, E, D
- 3. A, E, B, D, C
- 4. D, B, A, E, C

**Options :**

- 485584144697. 1
- 485584144698. 2
- 485584144699. 3
- 485584144700. 4

**Question Number : 425 Question Id : 48558436175 Question Type : MCQ Option Shuffling : No Is Question Mandatory : No Calculator : None Response Time : N.A Think Time : N.A Minimum Instruction Time : 0**

**Correct Marks : 5 Wrong Marks : 1**

**Question Key Details :**

Key	Value
Comprehension	MCQ2

চিত্রগুলির সময়সীমা অনুযায়ী চিত্রের সঠিক ক্রম নির্ণয় কর

- A. কৃষ্ণ গোবর্ধন পর্বতকে ধারণ করেছেন
- B. রাগ মেঘা
- C. রামের বিবাহ
- D. মহাবীরের জন্ম
- E. কালীয় দমন

নিচের বিকল্পগুলি থেকে সঠিক উত্তর বেছে নাও:

- 1. A, B, C, D, E
- 2. B, A, C, E, D
- 3. A, E, B, D, C
- 4. D, B, A, E, C

Options :

- 485584144697. 1
- 485584144698. 2
- 485584144699. 3
- 485584144700. 4

Question Number : 425 Question Id : 48558436175 Question Type : MCQ Option Shuffling : No Is Question Mandatory : No Calculator : None Response Time : N.A Think Time : N.A Minimum Instruction Time : 0

Correct Marks : 5 Wrong Marks : 1

Question Key Details :

Key	Value
Comprehension	MCQ2

পেঁপুটিগনে সাথী ঝেঁপুটিমাং তেনা সময়কাল প্রমাণে ঐজাণী.

- A. গৌবর্ধন পর্বতনে উপাস্তা কৃষ্ণ
- B. রাগমেঘা
- C. রামনা বসু
- D. মহাবীরনো জন্ম
- E. কাধীয়া মর্টন

নীয়ে আপেবা বিক্রমোমাংথী সাথো জবাল পসং করো.

- 1. A, B, C, D, E
- 2. B, A, C, E, D
- 3. A, E, B, D, C
- 4. D, B, A, E, C

Options :

- 485584144697. 1
- 485584144698. 2
- 485584144699. 3
- 485584144700. 4

Question Number : 425 Question Id : 48558436175 Question Type : MCQ Option Shuffling : No Is Question Mandatory : No Calculator : None Response Time : N.A Think Time : N.A Minimum Instruction Time : 0

Correct Marks : 5 Wrong Marks : 1

Question Key Details :

Key	Value
Comprehension	MCQ2

ಚಿತ್ರಕಲೆಯ ಸರಿಯಾದ ಅನುಕ್ರಮಣಿಕೆಯನ್ನು ಅವುಗಳ ಕಾಲಾವಧಿಯ ಪ್ರಕಾರ ಗುರುತಿಸಿ.

- A. ಗೋವರ್ಧನ ಪರ್ವತವನ್ನು ಎತ್ತುತ್ತಿರುವ ಕೃಷ್ಣ
- B. ರಾಗ ಮೇಘ
- C. ರಾಮನ ವಿವಾಹ
- D. ಮಹಾವೀರನ ಜನನ
- E. ಕಾಳಿಯ ಮರ್ದನ

ಕೆಳಗೆ ನೀಡಿರುವ ಆಯ್ಕೆಗಳಿಂದ ಸರಿಯಾದ ಉತ್ತರವನ್ನು ಆರಿಸಿ:

- 1. A, B, C, D, E
- 2. B, A, C, E, D
- 3. A, E, B, D, C
- 4. D, B, A, E, C

Options :

- 485584144697. 1
- 485584144698. 2
- 485584144699. 3
- 485584144700. 4

Question Number : 425 Question Id : 48558436175 Question Type : MCQ Option Shuffling : No Is Question Mandatory : No Calculator : None Response Time : N.A Think Time : N.A Minimum Instruction Time : 0

Correct Marks : 5 Wrong Marks : 1

Question Key Details :

Key	Value
Comprehension	MCQ2

ಕಾಲಗಣನಾಪ್ರಕಾರಂ ನಾಣಿಕಿಯಿರಿಕ್ಕುಣಾ ಫಿತ್ರಣಿಸಿ ಕ್ರಮಪ್ಪಿಸುತ್ತುಕ:

- A. ಕ್ಯೂಷ್ಠನಿ ಉಗಾವರಿತ್ತಿ ಪರಿವೃತಂ ಉಯಿತ್ತಿತ್ತು.
- B. ರಾಗ ಮೇಘ
- C. ರಾಮನ ವಿವಾಹ
- D. ಮಹಾವೀರನ ಜನನ
- E. ಕಾಳಿಯ ಮರ್ದನ

ಶಾಫ ಕೂಡುತನಿಕ್ಕುಣಾವಯಿಣಿ ನಾಣಿ ಖನಿಯಯ ಉತ್ತರಂ ಕೂಡುತನುಕ :

- 1. A, B, C, D, E
- 2. B, A, C, E, D
- 3. A, E, B, D, C
- 4. D, B, A, E, C

Options :

- 485584144697. 1
- 485584144698. 2
- 485584144699. 3
- 485584144700. 4

Question Number : 425 Question Id : 48558436175 Question Type : MCQ Option Shuffling : No Is Question Mandatory : No Calculator : None Response Time : N.A Think Time : N.A Minimum Instruction Time : 0

Correct Marks : 5 Wrong Marks : 1

Question Key Details :

Key	Value
Comprehension	MCQ2

कालखंडानुसार पुढील चित्रांचा योग्य क्रम ओळखा

- A. गोवर्धन पर्वत उचरून घेतलेला कृष्ण
- B. राग मेघा
- C. रामाचा विवाह
- D. महावीरांचा जन्म
- E. कालिया मर्दन

खालील पर्यायातून अचूक उत्तर शोधा

- 1. A, B, C, D, E
- 2. B, A, C, E, D
- 3. A, E, B, D, C
- 4. D, B, A, E, C

Options :

- 485584144697. 1
- 485584144698. 2
- 485584144699. 3
- 485584144700. 4

Question Number : 425 Question Id : 48558436175 Question Type : MCQ Option Shuffling : No Is Question Mandatory : No Calculator : None Response Time : N.A Think Time : N.A Minimum Instruction Time : 0

Correct Marks : 5 Wrong Marks : 1

Question Key Details :

Key	Value
Comprehension	MCQ2

ସମୟ ଭାବେ ଅନୁପାଦ୍ୟା ବିନ୍ଦୁ ଉପରେ କ୍ରମ ଦାଖଲ କର

- A. ବୃଷ ଗୋବର୍ଦ୍ଧନ ପର୍ବତକୁ ଚୋରି କରିବା
- B. ରାଗ ମେଘ
- C. ରାମଚନ୍ଦ୍ର ବିବାହ
- D. ମହାବୀରଙ୍କ ଜନ୍ମ
- E. କାଳିୟା ମର୍ଦ୍ଦନ

ଦିଆଯାଇଥିବା ବିକଳ୍ପରୁ ସଠିକ୍ ଜବାବଟି ଦାଖଲ କର

- 1. A, B, C, D, E
- 2. B, A, C, E, D
- 3. A, E, B, D, C
- 4. D, B, A, E, C

Options :

- 485584144697. 1
- 485584144698. 2
- 485584144699. 3
- 485584144700. 4

Question Number : 425 Question Id : 48558436175 Question Type : MCQ Option Shuffling : No Is Question Mandatory : No Calculator : None Response Time : N.A Think Time : N.A Minimum Instruction Time : 0

Correct Marks : 5 Wrong Marks : 1

Question Key Details :

Key	Value
-----	-------

ਚਿੱਤਰਾਂ ਨੂੰ ਉਹਨਾਂ ਦੇ ਸਮਾਂ ਕਾਲ ਮੁਤਾਬਿਕ ਪਛਾਣੋ।

- A. ਕ੍ਰਿਸ਼ਨ ਨੇ ਗੋਵਰਧਨ ਪਰਬਤ ਚੁੱਕਿਆ
- B. ਰਾਗ ਮੇਘ
- C. ਰਾਮ ਦਾ ਵਿਆਹ
- D. ਮਹਾਂਵੀਰ ਦਾ ਜਨਮ
- E. ਕਾਲੀਆ ਮਰਦਾਨਾ

ਹੇਠਾਂ ਦਿੱਤੇ ਵਿਕਲਪਾਂ ਵਿੱਚੋਂ ਸਹੀ ਉੱਤਰ ਚੁਣੋ:

- 1. A, B, C, D, E
- 2. B, A, C, E, D
- 3. A, E, B, D, C
- 4. D, B, A, E, C

**Options :**

- 485584144697. 1
- 485584144698. 2
- 485584144699. 3
- 485584144700. 4

**Question Number : 425 Question Id : 48558436175 Question Type : MCQ Option Shuffling : No Is Question Mandatory : No Calculator : None Response Time : N.A Think Time : N.A Minimum Instruction Time : 0**

**Correct Marks : 5 Wrong Marks : 1**

**Question Key Details :**

Key	Value
Comprehension	MCQ2

ਅਵਧੁਰੀਨ ਕਾਲਕੱਟਤਾਈਪ ਪੋਰੁਠੁਠੁ, ਓਲਿਯਠੁਕਲਿਨ ਸਰਿਯਾਨ ਅਠੁਕੁਕੁ  
ਵਰਿਸੇਸਯਕ ਕਠੁਨੁਦਰਿਕ:

- A. ਕ੍ਰਿਸ਼ਨ ਨੇ ਗੋਵਰਧਨ ਪਰਬਤ ਚੁੱਕਿਆ
- B. ਰਾਗ ਮੇਘ
- C. ਰਾਮ ਦਾ ਵਿਆਹ
- D. ਮਹਾਂਵੀਰ ਦਾ ਜਨਮ
- E. ਕਾਲੀਆ ਮਰਦਾਨਾ

ਕਿੱਠੁ ਠੁਰਪੁਪੁਠੁਠੁ ਵਾਧੁਪੁਪੁਕਲਿਨ ਇਰੁਠੁਠੁ ਸਰਿਯਾਨ ਵਿਦੇਠੁਠੁਠੁ ਠੁਠੁਰੁਠੁਠੁਠੁਕੁਕੁਕੁਕੁਕੁ:

- 1. A, B, C, D, E
- 2. B, A, C, E, D
- 3. A, E, B, D, C
- 4. D, B, A, E, C

**Options :**

- 485584144697. 1
- 485584144698. 2
- 485584144699. 3
- 485584144700. 4

**Question Number : 425 Question Id : 48558436175 Question Type : MCQ Option Shuffling : No Is Question Mandatory : No Calculator : None Response Time : N.A Think Time : N.A Minimum Instruction Time : 0**

**Correct Marks : 5 Wrong Marks : 1**

**Question Key Details :**

Key	Value
Comprehension	MCQ2

క్రింది చిత్రలేఖనాలలో వాటి వాటి కాలాలను బట్టి సరైన వరుస క్రమాన్ని గుర్తించండి

- A. కృష్ణుడు గోవర్ధన గిరి పర్యటాన్ని ఎత్తడం
- B. రాగ మేఘ
- C. రాముడి వివాహం
- D. మహావీరుడి జననం
- E. కాళీయ మర్ధనం

క్రింది వాటిలో సరైన వికల్పాన్ని ఎంచుకోండి

- 1. A, B, C, D, E
- 2. B, A, C, E, D
- 3. A, E, B, D, C
- 4. D, B, A, E, C

Options :

- 485584144697. 1
- 485584144698. 2
- 485584144699. 3
- 485584144700. 4

Question Number : 425 Question Id : 48558436175 Question Type : MCQ Option Shuffling : No Is Question Mandatory : No Calculator : None Response Time : N.A Think Time : N.A Minimum Instruction Time : 0

Correct Marks : 5 Wrong Marks : 1

Question Key Details :

Key	Value
Comprehension	MCQ2

پیشگی کر زعمی اعتبار سے ترتیب دیں :

- A. کرشنا نے گووردھن پہاڑ اٹھایا
- B. رانا میگھا
- C. رانا کی شادی
- D. مہاویر کا جنم
- E. کالیہا ماردانہ

نیچے سے درست جواب کا انتخاب کریں :

- 1. A, B, C, D, E
- 2. B, A, C, E, D
- 3. A, E, B, D, C
- 4. D, B, A, E, C

Options :

- 485584144697. 1
- 485584144698. 2
- 485584144699. 3
- 485584144700. 4

Question Number : 426 Question Id : 48558436176 Question Type : MCQ Option Shuffling : No Is Question Mandatory : No Calculator : None Response Time : N.A Think Time : N.A Minimum Instruction Time : 0

Correct Marks : 5 Wrong Marks : 1


Question Key Details :

Key	Value
Comprehension	MCQ2

Identify the artwork and its theme?

- A. Krishna with Gopis
- B. Krishna on Swing
- C. Krishna Lifts Mount Govardhan
- D. Rasikapriya Theme
- E. Ramayana Theme

Choose the correct answer from the options given below:



- 1. A and E only
- 2. B and D only
- 3. C and D only
- 4. B and E only

**Options :**

- 485584144701. 1
- 485584144702. 2
- 485584144703. 3
- 485584144704. 4

**Question Number : 426 Question Id : 48558436176 Question Type : MCQ Option Shuffling : No Is Question Mandatory : No Calculator : None Response Time : N.A Think Time : N.A Minimum Instruction Time : 0**

**Correct Marks : 5 Wrong Marks : 1**

**Question Key Details :**


Key	Value
Comprehension	MCQ2



चित्र और इसकी विषय-वस्तु को पहचानिए:

- A. गोविंदों के साथ कृष्ण
- B. दूले पर कृष्ण
- C. कृष्ण गोवर्धन पर्वत उठाते हुए
- D. रसिकप्रिया विषयवस्तु
- E. रामायण विचारधारा

नीचे दिए गए विकल्पों में से सही उत्तर चुनिए:



- 1. A और E केवल
- 2. B और D केवल
- 3. C और D केवल
- 4. B और E केवल

**Options :**

- 485584144701. 1
- 485584144702. 2
- 485584144703. 3
- 485584144704. 4

**Question Number : 426 Question Id : 48558436176 Question Type : MCQ Option Shuffling : No Is Question Mandatory : No Calculator : None Response Time : N.A Think Time : N.A Minimum Instruction Time : 0**

**Correct Marks : 5 Wrong Marks : 1**

**Question Key Details :**

Key	Value
Comprehension	MCQ2

চিত্রশিল্প আৰু বিষয়বস্তু কোনটো ?

- A. কৃষ্ণ আৰু গোপী
- B. বৃন্দাবনত কৃষ্ণ
- C. কৃষ্ণই গোবৰ্ধন পৰ্বত দাঙিছে
- D. বাসিন্দাপ্ৰিয়ৱা বিষয়বস্তু
- E. নামাচণন বিষয়বস্তু



- 1. কেৱলমতে A আৰু E
- 2. কেৱলমতে B আৰু D
- 3. কেৱলমতে C আৰু D
- 4. কেৱলমতে B আৰু E

Options :

- 485584144701. 1
- 485584144702. 2
- 485584144703. 3
- 485584144704. 4

Question Number : 426 Question Id : 48558436176 Question Type : MCQ Option Shuffling : No Is Question Mandatory : No Calculator : None Response Time : N.A Think Time : N.A Minimum Instruction Time : 0

Correct Marks : 5 Wrong Marks : 1


Question Key Details :

Key	Value
Comprehension	MCQ2

বিষয় অনুযায়ী চিত্রশিল্পটি নির্ধারিত কর ?

- A. গোপীদের সাথে কৃষ্ণ
- B. কৃষ্ণ দোলার
- C. কৃষ্ণ গোবর্ধন পর্বতকে তুলে ধরেছেন
- D. রাসিকাপ্রিয়া বিষয়
- E. রামায়ণ বিষয়

নিচের বিকল্পগুলি থেকে সঠিক উত্তর বেছে নিন:



- 1. কেবলমাত্র A এবং E
- 2. কেবলমাত্র B এবং D
- 3. কেবলমাত্র C এবং D
- 4. কেবলমাত্র B এবং E

**Options :**

- 485584144701. 1
- 485584144702. 2
- 485584144703. 3
- 485584144704. 4

**Question Number : 426 Question Id : 48558436176 Question Type : MCQ Option Shuffling : No Is Question Mandatory : No Calculator : None Response Time : N.A Think Time : N.A Minimum Instruction Time : 0**

**Correct Marks : 5 Wrong Marks : 1**


**Question Key Details :**

Key	Value
Comprehension	MCQ2

કલાકારી અને તેના માધ્યમને ઓળખો.

- A. કૃષ્ણ સાથે ગોપીઓ
- B. કુંભા પર કૃષ્ણ
- C. ગોવર્ધન પર્વત ઉપાસના કૃષ્ણ
- D. રસીકપ્રીય થીમ
- E. રામાયણ થીમ

નીચે આપેલા ચિત્રલોમાંથી સાચો જવાબ પસંદ કરો.



- 1. માત્ર A અને E
- 2. માત્ર B અને D
- 3. માત્ર C અને D
- 4. માત્ર B અને E

**Options :**

- 485584144701. 1
- 485584144702. 2
- 485584144703. 3
- 485584144704. 4

**Question Number : 426 Question Id : 48558436176 Question Type : MCQ Option Shuffling : No Is Question Mandatory : No Calculator : None Response Time : N.A Think Time : N.A Minimum Instruction Time : 0**

**Correct Marks : 5 Wrong Marks : 1**


**Question Key Details :**

Key	Value
Comprehension	MCQ2

ಕಲಾ ಅರ್ಥ ಮತ್ತು ಅದರ ವಿಷಯ ವಸ್ತುವನ್ನು ಗುರುತಿಸಿ?

- A. ಗೋಪಿಕೆಯರ ಮೂವೆಯಲ್ಲಿ ಕೃಷ್ಣ
- B. ಅಂದವ್ಯಾಜಿಯಲ್ಲಿರುವ ಕೃಷ್ಣ
- C. ಗೋವರ್ಧನ ಪರ್ವತ ಎತ್ತುತ್ತಿರುವ ಕೃಷ್ಣ
- D. ರಸಿಕತೆಯ ವಿಷಯ ವಸ್ತು
- E. ರಾಮಾಯಣ ವಿಷಯ ವಸ್ತು

ಕೆಳಗೆ ನೀಡಿರುವ ಆಯ್ಕೆಗಳಿಂದ ಸರಿಯಾದ ಉತ್ತರವನ್ನು ಆರಿಸಿ:



- 1. A ಮತ್ತು E ಮಾತ್ರ
- 2. B ಮತ್ತು D ಮಾತ್ರ
- 3. C ಮತ್ತು D ಮಾತ್ರ
- 4. B ಮತ್ತು E ಮಾತ್ರ

Options :

- 485584144701. 1
- 485584144702. 2
- 485584144703. 3
- 485584144704. 4

Question Number : 426 Question Id : 48558436176 Question Type : MCQ Option Shuffling : No Is Question Mandatory : No Calculator : None Response Time : N.A Think Time : N.A Minimum Instruction Time : 0

Correct Marks : 5 Wrong Marks : 1


Question Key Details :

Key	Value
Comprehension	MCQ2

നാടകിയിട്ടുള്ള ചിത്രവും അതിന്റെ ഇതിവൃത്തവും കണ്ടെത്തുക.

- A. കൃഷ്ണൻ മോഹികമാനും
- B. കൃഷ്ണൻ മരണമലിൻ
- C. കൃഷ്ണൻ മോഹമീന പർവ്വതം ഉയർത്തുന്നു
- D. നന്ദികുപിയ പ്രമേയം
- E. മരമംഗല പ്രമേയം

താഴെ നാടകിയിട്ടുള്ളവയിൽ നിന്ന് ശരിയായ ഉത്തരം തിരഞ്ഞെടുക്കുക :



- 1. A, E മാത്രം
- 2. B, D മാത്രം
- 3. C, D മാത്രം
- 4. B, E മാത്രം

**Options :**

- 485584144701. 1
- 485584144702. 2
- 485584144703. 3
- 485584144704. 4

**Question Number : 426 Question Id : 48558436176 Question Type : MCQ Option Shuffling : No Is Question Mandatory : No Calculator : None Response Time : N.A Think Time : N.A Minimum Instruction Time : 0**

**Correct Marks : 5 Wrong Marks : 1**


**Question Key Details :**

Key	Value
Comprehension	MCQ2

पुढील कथाकृती व तिची विवकल्पना ओळखा.

- A. गोपीशरोवर कृष्ण
- B. झोपाळ्यावरील कृष्ण
- C. कृष्ण गोवर्धन घर्षित उचलतो
- D. रसिकप्रिया विवकल्पना
- E. रामायण विवकल्पना

खालील पर्यायातून अचूक उत्तर शोधा.



- 1. A आणि E फक्त
- 2. B आणि D फक्त
- 3. C आणि D फक्त
- 4. B आणि E फक्त

**Options :**

- 485584144701. 1
- 485584144702. 2
- 485584144703. 3
- 485584144704. 4

**Question Number : 426 Question Id : 48558436176 Question Type : MCQ Option Shuffling : No Is Question Mandatory : No Calculator : None Response Time : N.A Think Time : N.A Minimum Instruction Time : 0**

**Correct Marks : 5 Wrong Marks : 1**

**Question Key Details :**

Key	Value
Comprehension	MCQ2

କିନ୍ତୁ ଏବଂ ଏହାର ସ୍ୱରୂପ କ'ଣ ?

- A. ବୃକ୍ଷର ପତ୍ର ଗୋଡ଼ା
- B. ବୃକ୍ଷ ଗୋଡ଼ିଗର
- C. ବୃକ୍ଷ ଗୋଡ଼ିଗ ପାଦାବଳୀ ଉପରକୁ
- D. ଉପରକୁ ଉଡ଼ିବା
- E. ଉପରକୁ ଉଡ଼ିବା

କିନ୍ତୁ ଏହାର ସ୍ୱରୂପ କ'ଣ ?



- 1. ଉପର A ଏବଂ E
- 2. ଉପର B ଏବଂ D
- 3. ଉପର C ଏବଂ D
- 4. ଉପର B ଏବଂ E

Options :

- 485584144701. 1
- 485584144702. 2
- 485584144703. 3
- 485584144704. 4

Question Number : 426 Question Id : 48558436176 Question Type : MCQ Option Shuffling : No Is Question Mandatory : No Calculator : None Response Time : N.A Think Time : N.A Minimum Instruction Time : 0

Correct Marks : 5 Wrong Marks : 1

Question Key Details :


Key	Value
Comprehension	MCQ2



ਕਲਾ ਦਾ ਨਾਮ ਅਤੇ ਦਿਲਾ ਪਛਾਣੋ:

- A. ਗੋਪੀਆਂ ਨਾਲ ਕ੍ਰਿਸ਼ਨ
- B. ਝੁਲੇ ਤੇ ਕ੍ਰਿਸ਼ਨ
- C. ਕ੍ਰਿਸ਼ਨ ਨੇ ਕੇਵਰਧਨਪਰਬਤ ਚੁੰਬੀਆਂ
- D. ਰਸਿਕਪ੍ਰਿਯਾ ਦਿਲਾ
- E. ਰਾਮਦਿਟ ਦਿਲਾ

ਹੇਠਾਂ ਦਿੱਤੇ ਵਿਕਲਪਾਂ ਵਿੱਚੋਂ ਸਹੀ ਉੱਤਰ ਚੁਣੋ:



- 1. ਸਿਰਫ਼ A ਅਤੇ E
- 2. ਸਿਰਫ਼ B ਅਤੇ D
- 3. ਸਿਰਫ਼ C ਅਤੇ D
- 4. ਸਿਰਫ਼ B ਅਤੇ E

**Options :**

- 485584144701. 1
- 485584144702. 2
- 485584144703. 3
- 485584144704. 4

**Question Number : 426 Question Id : 48558436176 Question Type : MCQ Option Shuffling : No Is Question Mandatory : No Calculator : None Response Time : N.A Think Time : N.A Minimum Instruction Time : 0**

**Correct Marks : 5 Wrong Marks : 1**


**Question Key Details :**

Key	Value
Comprehension	MCQ2

இந்த ஓவியத்தின் கலைவகைகளைக் கண்டறிதல்:

- A. கருவடி வகை கோபீஸ்
- B. கருவடி வகை ஆன் ஸ்வீஸ்
- C. கருவடி வகை லிப்ட்ஸ் டெஸ்ட் கோவர்த்தன்
- D. ரசிகப்பிரியா கருவடிவகை
- E. ராமாயண கருவடிவகை

கீழே தரப்பட்டுள்ள வாய்ப்புகளில் இருந்து சரியான விடையைத் தேர்ந்தெடுக்கவும்:



- 1. A மற்றும் E மட்டுமே
- 2. B மற்றும் D மட்டுமே
- 3. C மற்றும் D மட்டுமே
- 4. B மற்றும் E மட்டுமே

Options :

- 485584144701. 1
- 485584144702. 2
- 485584144703. 3
- 485584144704. 4

Question Number : 426 Question Id : 48558436176 Question Type : MCQ Option Shuffling : No Is Question Mandatory : No Calculator : None Response Time : N.A Think Time : N.A Minimum Instruction Time : 0

Correct Marks : 5 Wrong Marks : 1


Question Key Details :

Key	Value
Comprehension	MCQ2

కళకృతి మరియు దాని విషయాన్ని గుర్తించండి ?

- A. గోవికలతో కృష్ణుడు
- B. ఉయలలో కృష్ణుడు
- C. కృష్ణుడు గోవర్ధన గిరిని ఎత్తడం
- D. రసికప్రియ నృపథ్యం
- E. రామాయణ నృపథ్యం

క్రింది వాటిలో సరైన సమాధానాన్ని ఎంచుకోండి.



1. A మరియు E మాత్రమే
2. B మరియు D మాత్రమే
3. C మరియు D మాత్రమే
4. B మరియు E మాత్రమే

**Options :**

- 485584144701. 1
- 485584144702. 2
- 485584144703. 3
- 485584144704. 4

**Question Number : 426 Question Id : 48558436176 Question Type : MCQ Option Shuffling : No Is Question Mandatory : No Calculator : None Response Time : N.A Think Time : N.A Minimum Instruction Time : 0**

**Correct Marks : 5 Wrong Marks : 1**


**Question Key Details :**

Key	Value
Comprehension	MCQ2

فن پارہ اور اس کی تہیم کی نشاندہی کیجئے ؟

- A. کرشن گویوں کے ساتھ
- B. کرشن جھولے پر
- C. کرشن کے گوردن پہرے لہانا
- D. رسکیور یا تہیم
- E. رامن تہیم

نیچے سے درست جواب کا انتخاب کریں :-



1. A اور E صرف
2. B اور D صرف
3. C اور D صرف
4. B اور E صرف

**Options :**

- 485584144701. 1
- 485584144702. 2
- 485584144703. 3
- 485584144704. 4

Question Number : 427 Question Id : 48558436177 Question Type : MCQ Option Shuffling : No Is Question Mandatory : No Calculator : None Response Time : N.A Think Time : N.A Minimum Instruction Time : 0

Correct Marks : 5 Wrong Marks : 1

Question Key Details :

Key	Value
Comprehension	MCQ2

Identify the Schools of Deccani painting among the followings.

- A. Bijapur, Kangra, Golconda
- B. Basohli, Bijapur
- C. Kangra, Golconda, Basohli
- D. Golconda, Bijapur, Ahmadnagar
- E. Bijapur, Golconda

Choose the correct answer from the options given below:

- 1. A and E only
- 2. C and D only
- 3. D and E only
- 4. A and C only

**Options :**

- 485584144705. 1
- 485584144706. 2
- 485584144707. 3
- 485584144708. 4

**Question Number : 427 Question Id : 48558436177 Question Type : MCQ Option Shuffling : No Is Question Mandatory : No Calculator : None Response Time : N.A Think Time : N.A Minimum Instruction Time : 0**

**Correct Marks : 5 Wrong Marks : 1**

**Question Key Details :**

Key	Value
Comprehension	MCQ2

निम्न में से दक्कनी चित्रकला शैली को पहचानिए:

- A. बीजापुर, कांगड़ा, गोलकुंडा
- B. बसोहली, बीजापुर
- C. कांगड़ा, गोलकुंडा, बसोहली
- D. गोलकुंडा, बीजापुर, अहमदनगर
- E. बीजापुर, गोलकुंडा

नीचे दिए गए विकल्पों में से सही उत्तर चुनिए:

- 1. A और E केवल
- 2. C और D केवल
- 3. D और E केवल
- 4. A और C केवल

**Options :**

- 485584144705. 1
- 485584144706. 2
- 485584144707. 3
- 485584144708. 4

**Question Number : 427 Question Id : 48558436177 Question Type : MCQ Option Shuffling : No Is Question Mandatory : No Calculator : None Response Time : N.A Think Time : N.A Minimum Instruction Time : 0**

**Correct Marks : 5 Wrong Marks : 1**

**Question Key Details :**

Key	Value
Comprehension	MCQ2

ডেক্কানী চিত্ৰশিল্পৰ স্কুল কোনখন ?

- A. বিজ্ঞাপুৰ, কাংগ্ৰা, গলকন্দা
- B. বাছলী, বিজ্ঞাপুৰ
- C. কাংগ্ৰা, গলকন্দা, বাছলী
- D. গলকন্দা, বিজ্ঞাপুৰ, আহমদনগৰ
- E. বিজ্ঞাপুৰ, গলকন্দা

1. কেৱলমাত্ৰ A আৰু E
2. কেৱলমাত্ৰ C আৰু D
3. কেৱলমাত্ৰ D আৰু E
4. কেৱলমাত্ৰ A আৰু C

Options :

- 485584144705. 1
- 485584144706. 2
- 485584144707. 3
- 485584144708. 4

Question Number : 427 Question Id : 48558436177 Question Type : MCQ Option Shuffling : No Is Question Mandatory : No Calculator : None Response Time : N.A Think Time : N.A Minimum Instruction Time : 0

Correct Marks : 5 Wrong Marks : 1

Question Key Details :

Key	Value
Comprehension	MCQ2

ডেক্কানী পেন্টিং ঘৰানাটি চিহ্নিত কৰ

- A. বিজ্ঞাপুৰ, কাঙুৱা, গোলকোস্তা
- B. বাসনী, বিজ্ঞাপুৰ
- C. কাঙুৱা, গোলকোস্তা, বাসনী
- D. গোলকোস্তা, বিজ্ঞাপুৰ, আহমদনগৰ
- E. বিজ্ঞাপুৰ, গোলকোস্তা

সঠিক উত্তৰটি চিহ্নিত কৰ:

1. কেৱলমাত্ৰ A এবং E
2. কেৱলমাত্ৰ C এবং D
3. কেৱলমাত্ৰ D এবং E
4. কেৱলমাত্ৰ A এবং C

Options :

- 485584144705. 1
- 485584144706. 2
- 485584144707. 3
- 485584144708. 4

Question Number : 427 Question Id : 48558436177 Question Type : MCQ Option Shuffling : No Is Question Mandatory : No Calculator : None Response Time : N.A Think Time : N.A Minimum Instruction Time : 0

Correct Marks : 5 Wrong Marks : 1

Question Key Details :

Key	Value
Comprehension	MCQ2

ડેક્કાની પેઇન્ટિંગની સ્કૂલોને ઓળખો.

- A. બીજાપુર, કાંજરા, ગોલકોડા
- B. બસોહલી, બીજાપુર
- C. કાંજરા, ગોલકોડા, બસોહલી
- D. ગોલકોડા, બીજાપુર, અહમદનગર
- E. બીજાપુર, ગોલકોડા

નીચે આપેલા વિકલ્પોમાંથી સાચો જવાબ પસંદ કરો.

1. માત્ર A અને E
2. માત્ર C અને D
3. માત્ર D અને E
4. માત્ર A અને C

**Options :**

- 485584144705. 1
- 485584144706. 2
- 485584144707. 3
- 485584144708. 4

**Question Number : 427 Question Id : 48558436177 Question Type : MCQ Option Shuffling : No Is Question Mandatory : No Calculator : None Response Time : N.A Think Time : N.A Minimum Instruction Time : 0**

**Correct Marks : 5 Wrong Marks : 1**

**Question Key Details :**

Key	Value
Comprehension	MCQ2

ઢંક્કાની ઢેત્રકલેયુ ઠાલેગલનુુ ગુરુતીસી.

- A. બીજાપુર, કાંજરા, ગોલકોડા
- B. બાસોહલી, બીજાપુર
- C. કાંજરા, ગોલકોડા, બાસોહલી
- D. ગોલકોડા, બીજાપુર, અહમદનગર
- E. બીજાપુર, ગોલકોડા

કેલગે નીલેરુવ અયુુગલેલંદ સરુયુલ ઠુત્રવનુુ અરુસી.

1. A મુતુ E મુલત્ર
2. C મુતુ D મુલત્ર
3. D મુતુ E મુલત્ર
4. A મુતુ C મુલત્ર

**Options :**

- 485584144705. 1
- 485584144706. 2
- 485584144707. 3
- 485584144708. 4

**Question Number : 427 Question Id : 48558436177 Question Type : MCQ Option Shuffling : No Is Question Mandatory : No Calculator : None Response Time : N.A Think Time : N.A Minimum Instruction Time : 0**

**Correct Marks : 5 Wrong Marks : 1**

**Question Key Details :**

Key	Value
Comprehension	MCQ2

ഡെക്കാനി സമ്പ്രദായത്തിലുള്ള പെയിന്റിങ്ങുകൾ ഏതെല്ലാം ?

- A. ബിജാപൂർ, കാൻഗ്ര, ഗോൽക്കോണ്ട
- B. ബസോഹ്ലി, ബിജാപൂർ
- C. കാൻഗ്ര, ഗോൽക്കോണ്ട, ബസോഹ്ലി
- D. ഗോൽക്കോണ്ട, ബിജാപൂർ, അഹമ്മത് നഗർ
- E. ബിജാപൂർ, ഗോൽക്കോണ്ട

താഴെ നൽകിയിട്ടുള്ളവയിൽ നിന്ന് ശരിയായ ഉത്തരം തിരഞ്ഞെടുക്കുക:

- 1. A, E മാത്രം
- 2. C, D മാത്രം
- 3. D, E മാത്രം
- 4. A, C മാത്രം

Options :

- 485584144705. 1
- 485584144706. 2
- 485584144707. 3
- 485584144708. 4

Question Number : 427 Question Id : 48558436177 Question Type : MCQ Option Shuffling : No Is Question Mandatory : No Calculator : None Response Time : N.A Think Time : N.A Minimum Instruction Time : 0

Correct Marks : 5 Wrong Marks : 1

Question Key Details :

Key	Value
Comprehension	MCQ2

दख्खनी चित्रकलेच्या शाळा ओळखा

- A. बिजापूर, कांगडा, गोलकोंडा
- B. बासोहली, बिजापूर
- C. कांगडा, गोलकोंडा, बासोहली
- D. गोलकोंडा, बिजापूर, बासोहली
- E. बिजापूर, गोलकोंडा

खालील पर्यायातून अचूक उत्तर शोधा

- 1. केवळ A आणि E
- 2. केवळ C आणि D
- 3. केवळ D आणि E
- 4. केवळ A आणि C

Options :

- 485584144705. 1
- 485584144706. 2
- 485584144707. 3
- 485584144708. 4

Question Number : 427 Question Id : 48558436177 Question Type : MCQ Option Shuffling : No Is Question Mandatory : No Calculator : None Response Time : N.A Think Time : N.A Minimum Instruction Time : 0

Correct Marks : 5 Wrong Marks : 1

Question Key Details :

Key	Value
Comprehension	MCQ2



ਫੇਰਕਾਰੀ ਕਿਹੋ ਖੂਨਕਿਹੋ ਕਾਠਕੁ।

- A. ਫਿਰਕਾਰੀ, ਕਾਠਕੁ, ਖੋਲਕਾਰੀ
- B. ਖੋਲਕਾਰੀ, ਫਿਰਕਾਰੀ
- C. ਕਾਠਕੁ, ਖੋਲਕਾਰੀ, ਖੋਲਕਾਰੀ
- D. ਖੋਲਕਾਰੀ, ਫਿਰਕਾਰੀ, ਖੋਲਕਾਰੀ
- E. ਫਿਰਕਾਰੀ, ਖੋਲਕਾਰੀ

ਫਿਰਕਾਰੀ ਖੋਲਕਾਰੀ ਖੋਲਕਾਰੀ ਖੋਲਕਾਰੀ ਖੋਲਕਾਰੀ

- 1. ਖੋਲਕਾਰੀ A ਖੋਲਕਾਰੀ E
- 2. ਖੋਲਕਾਰੀ C ਖੋਲਕਾਰੀ D
- 3. ਖੋਲਕਾਰੀ D ਖੋਲਕਾਰੀ E
- 4. ਖੋਲਕਾਰੀ A ਖੋਲਕਾਰੀ C

Options :

- 485584144705. 1
- 485584144706. 2
- 485584144707. 3
- 485584144708. 4

Question Number : 427 Question Id : 48558436177 Question Type : MCQ Option Shuffling : No Is Question Mandatory : No Calculator : None Response Time : N.A Think Time : N.A Minimum Instruction Time : 0

Correct Marks : 5 Wrong Marks : 1

Question Key Details :

Key	Value
Comprehension	MCQ2

ਫਿਰਕਾਰੀ ਖੋਲਕਾਰੀ ਦੇ ਸਕੂਲ ਪਛਾਣੋ?

- A. ਖੋਲਕਾਰੀ, ਕਾਠਕੁ, ਖੋਲਕਾਰੀ
- B. ਖੋਲਕਾਰੀ, ਖੋਲਕਾਰੀ
- C. ਕਾਠਕੁ, ਖੋਲਕਾਰੀ, ਖੋਲਕਾਰੀ
- D. ਖੋਲਕਾਰੀ, ਖੋਲਕਾਰੀ, ਖੋਲਕਾਰੀ
- E. ਖੋਲਕਾਰੀ, ਖੋਲਕਾਰੀ

ਕੋਲੋਂ ਕਿਹੋ ਖੋਲਕਾਰੀ ਖੋਲਕਾਰੀ ਖੋਲਕਾਰੀ

- 1. ਖੋਲਕਾਰੀ A ਖੋਲਕਾਰੀ E
- 2. ਖੋਲਕਾਰੀ C ਖੋਲਕਾਰੀ D
- 3. ਖੋਲਕਾਰੀ D ਖੋਲਕਾਰੀ E
- 4. ਖੋਲਕਾਰੀ A ਖੋਲਕਾਰੀ C

Options :

- 485584144705. 1
- 485584144706. 2
- 485584144707. 3
- 485584144708. 4

Question Number : 427 Question Id : 48558436177 Question Type : MCQ Option Shuffling : No Is Question Mandatory : No Calculator : None Response Time : N.A Think Time : N.A Minimum Instruction Time : 0

Correct Marks : 5 Wrong Marks : 1

Question Key Details :



Key	Value
Comprehension	MCQ2

ذکری بیٹنگ اسکولز کی نشاندہی کیجئے !

- A. بیجاپور، کانگڑہ، گولکنڈہ  
 B. سولہ، بیجاپور  
 C. کانگڑہ، گولکنڈہ، سولہ  
 D. گولکنڈہ، بیجاپور، احمد نگر  
 E. بیجاپور، گولکنڈہ

نیچے سے درست جواب کا انتخاب کریں :

1. A اور E صرف
2. C اور D صرف
3. D اور E صرف
4. A اور C صرف

**Options :**

485584144705. 1  
 485584144706. 2  
 485584144707. 3  
 485584144708. 4

**Question Number : 428 Question Id : 48558436178 Question Type : MCQ Option Shuffling : No Is Question Mandatory : No Calculator : None Response Time : N.A Think Time : N.A Minimum Instruction Time : 0**

**Correct Marks : 5 Wrong Marks : 1**

**Question Key Details :**

Key	Value
Comprehension	MCQ2

What are Waslis?

- A. Layered, thin sheet of handmade paper  
 B. Glued together to get the desired thickness  
 C. Affinity for naturalism  
 D. Modes of narration  
 E. Layered with oil and cloth

Choose the correct answer from the options given below:

1. A and B only
2. A and C only
3. A and D only
4. A and E only

**Options :**

485584144709. 1  
 485584144710. 2  
 485584144711. 3  
 485584144712. 4

**Question Number : 428 Question Id : 48558436178 Question Type : MCQ Option Shuffling : No Is Question Mandatory : No Calculator : None Response Time : N.A Think Time : N.A Minimum Instruction Time : 0**

**Correct Marks : 5 Wrong Marks : 1**

**Question Key Details :**

Key	Value
Comprehension	MCQ2

वसलि क्या हैं?

- A. हाथ से बना परतदार और पतला पेपर
- B. बांछित मोटाई प्राप्त करने के लिए दो वस्तुओं को आपस में चिपकाना
- C. प्रकृतिवाद के लिए सजातीयता
- D. कथा वर्णन के प्रकार
- E. तेल और कपड़े से ढकी परत

नीचे दिए गए विकल्पों में से सही उत्तर चुनिए:

- 1. A और B केवल
- 2. A और C केवल
- 3. A और D केवल
- 4. A और E केवल

Options :

- 485584144709. 1
- 485584144710. 2
- 485584144711. 3
- 485584144712. 4

Question Number : 428 Question Id : 48558436178 Question Type : MCQ Option Shuffling : No Is Question Mandatory : No Calculator : None Response Time : N.A Think Time : N.A Minimum Instruction Time : 0

Correct Marks : 5 Wrong Marks : 1

Question Key Details :

Key	Value
Comprehension	MCQ2

बाहलिह कि ?

- A. त्रयसुक्त, हाते बनोवा पातल कागज
- B. मनःपुत गच्छता पावले ऐकेलगे आठो नगोवा
- C. ऐफिनिति फर नेचुरालिजम
- D. व्याखार स्थिति
- E. त्रयसुक्त तेलर आक कापोवर

सुद्ध उतुवर चिनाकु करा:

- 1. A आक B केवल
- 2. A आक C केवल
- 3. A आक D केवल
- 4. A आक E केवल

Options :

- 485584144709. 1
- 485584144710. 2
- 485584144711. 3
- 485584144712. 4

Question Number : 428 Question Id : 48558436178 Question Type : MCQ Option Shuffling : No Is Question Mandatory : No Calculator : None Response Time : N.A Think Time : N.A Minimum Instruction Time : 0

Correct Marks : 5 Wrong Marks : 1

Question Key Details :

Key	Value
Comprehension	MCQ2

ওয়েসলিস কি ?

- A. খুব পাতলা হ্যান্ড মেড ( হাতে তৈরী ) সিটের ত্তর
- B. আঠা দিয়ে জুড়ে নেওয়া যাতে মনের মতো করে পুরু মোটা করা যায়
- C. অ্যাফাইন ফর ন্যাচারলিজম
- D. বিবৃতির ধরণ ( মেড অফ ন্যারেশন )
- E. তেল এবং বস্ত্রের ত্তর

সঠিক উত্তর নির্ধারণ কর:

- 1. কেবলমাত্র A এবং B
- 2. কেবলমাত্র A এবং C
- 3. কেবলমাত্র A এবং D
- 4. কেবলমাত্র A এবং E

Options :

- 485584144709. 1
- 485584144710. 2
- 485584144711. 3
- 485584144712. 4

Question Number : 428 Question Id : 48558436178 Question Type : MCQ Option Shuffling : No Is Question Mandatory : No Calculator : None Response Time : N.A Think Time : N.A Minimum Instruction Time : 0

Correct Marks : 5 Wrong Marks : 1

Question Key Details :

Key	Value
Comprehension	MCQ2

বাসবীস যেটবে হুঁ ?

- A. ঙাথল্লাবটনা মগলনা স্তরবাণী, পাটলী শীট
- B. ঙমলীত ঙাডাঠ মেলাববা গুঁদর সাথী ঙাডবী
- C. প্রাকৃতিকরণ মাটে অঙ্কাঠন
- D. বর্ষালনী রীতী
- E. তেব অলে কাপড সাথী স্তরবাণী

নীযী আপেবা বিকল্যমাংঘী সাঘী ঙবাল্য পসং করী.

- 1. মান A অলে B
- 2. মান A অলে C
- 3. মান A অলে D
- 4. মান A অলে E

Options :

- 485584144709. 1
- 485584144710. 2
- 485584144711. 3
- 485584144712. 4

Question Number : 428 Question Id : 48558436178 Question Type : MCQ Option Shuffling : No Is Question Mandatory : No Calculator : None Response Time : N.A Think Time : N.A Minimum Instruction Time : 0

Correct Marks : 5 Wrong Marks : 1

Question Key Details :

Key	Value
Comprehension	MCQ2

ವಾಸ್ತುಶಾಸ್ತ್ರದ ರೇಖೆಗಳು?

- A. ಪದರಯುಕ್ತ, ಕೈನಿರ್ಮಿತ ತೆಳುಹಾಳಗಳು
- B. ಅಪೇಕ್ಷಿತ ದಪ್ಪವನ್ನು ಪಡೆಯಲು ಜೋತೆಯಾಗಿ ಅಂಟಿಕೊಂಡಿರುವುದು
- C. ಸಾಧ್ಯವಿರುವಷ್ಟು ಒಲವು
- D. ನಿರೂಪಣಾ ವಿಧಾನಗಳು
- E. ತೈಲ ಮತ್ತು ಬಟ್ಟೆಯೊಂದಿಗೆ ಪದರಗಳು

ಕೆಳಗೆ ನೀಡಿರುವ ಆಯ್ಕೆಗಳಿಂದ ಸರಿಯಾದ ಉತ್ತರವನ್ನು ಆರಿಸಿ:

1. A ಮತ್ತು B ಮಾತ್ರ
2. A ಮತ್ತು C ಮಾತ್ರ
3. A ಮತ್ತು D ಮಾತ್ರ
4. A ಮತ್ತು E ಮಾತ್ರ

Options :

- 485584144709. 1
- 485584144710. 2
- 485584144711. 3
- 485584144712. 4

Question Number : 428 Question Id : 48558436178 Question Type : MCQ Option Shuffling : No Is Question Mandatory : No Calculator : None Response Time : N.A Think Time : N.A Minimum Instruction Time : 0

Correct Marks : 5 Wrong Marks : 1

Question Key Details :

Key	Value
Comprehension	MCQ2

ವಾಸ್ತುಶಾಸ್ತ್ರದ ಉದ್ದೇಶವೇನು ?

- A. ಕೆಲವು ಕೆಲಸಗಳಿಗೆ ನಿರೀಕ್ಷಿಸಿದ ಅಡ್ಡಲೆಕ್ಕಗಳನ್ನು ಕೂಡಿಸಿ ಕಟ್ಟಿ ಕೊಡುವುದು
- B. ಕಟ್ಟಿ ಕೊಡುವುದಕ್ಕಾಗಿ ಪೂರೈಕೆಯಾಗಿ ಪೂರೈಕೆಯಾಗಿ ಕಟ್ಟಿ ಕೊಡುವುದು.
- C. ಪ್ರಕೃತಿಯುಂಟಾದಂತೆ ಕೆಲಸಗಳನ್ನು
- D. ವಿವಿಧ ರೀತಿಯಲ್ಲಿ
- E. ಉದ್ದೇಶವುಂಟಾದಂತೆ ಕೆಲಸಗಳನ್ನು

ಸರಿಯಾದ ಉತ್ತರವನ್ನು ಆರಿಸಿ:

1. A, B ಮಾತ್ರ
2. A, C ಮಾತ್ರ
3. A, D ಮಾತ್ರ
4. A, E ಮಾತ್ರ

Options :

- 485584144709. 1
- 485584144710. 2
- 485584144711. 3
- 485584144712. 4

Question Number : 428 Question Id : 48558436178 Question Type : MCQ Option Shuffling : No Is Question Mandatory : No Calculator : None Response Time : N.A Think Time : N.A Minimum Instruction Time : 0

Correct Marks : 5 Wrong Marks : 1

Question Key Details :

Key	Value
Comprehension	MCQ2

बासलीस काय आहे?

- A. हताने बनवलेली पातळ स्तरित पत्रक
- B. हवी तेवढी जाडी मिळविण्यासाठी एकत्र विकटवणे
- C. निसर्गवादासाठी अनुकूल
- D. कथन करण्याची पध्दत
- E. तेल आणि कापडा सह स्तरित करणे

खालील पर्यायातून अचूक उत्तर शोधा

- 1. केवळ A आणि B
- 2. केवळ A आणि C
- 3. केवळ A आणि D
- 4. केवळ A आणि E

Options :

- 485584144709. 1
- 485584144710. 2
- 485584144711. 3
- 485584144712. 4

Question Number : 428 Question Id : 48558436178 Question Type : MCQ Option Shuffling : No Is Question Mandatory : No Calculator : None Response Time : N.A Think Time : N.A Minimum Instruction Time : 0

Correct Marks : 5 Wrong Marks : 1

Question Key Details :

Key	Value
Comprehension	MCQ2

बादलीय कला ?

- A. क्लायट, शारदियासि उल्ला कालक
- B. वायुमंडल घनता पातळी पातळी पत्रक वरिष्ठ विपला झाडवई
- C. विपिनका वरिष्ठ क्लायट
- D. क्लायट प्रकाश
- E. क्लायट वरिष्ठ क्लायट व क्लायट

विपलाकथना क्लायट वरिष्ठ क्लायट व क्लायट:

- 1. क्लायट A वरिष्ठ B
- 2. क्लायट A वरिष्ठ C
- 3. क्लायट A वरिष्ठ D
- 4. क्लायट A वरिष्ठ E

Options :

- 485584144709. 1
- 485584144710. 2
- 485584144711. 3
- 485584144712. 4

Question Number : 428 Question Id : 48558436178 Question Type : MCQ Option Shuffling : No Is Question Mandatory : No Calculator : None Response Time : N.A Think Time : N.A Minimum Instruction Time : 0

Correct Marks : 5 Wrong Marks : 1

Question Key Details :

Key	Value
Comprehension	MCQ2

ਵਾਸਲਿਸ ਕੀ ਹਨ?

- ਪ੍ਰਤਵਾਲੀ, ਰੱਥ ਦੀ ਬਣਾਈ ਪਤਲੀ ਚਾਦਰ
- ਚਾਹਵਾਨ ਮੋਟਾਰੀ ਪ੍ਰਾਪਤ ਕਰਨ ਲਈ ਆਪਸ ਵਿੱਚ ਜੋੜਨਾ
- ਬੁਦਰਤਵਾਦ ਲਈ ਅੰਫਾਈਨ
- ਕਥਾ ਦੇ ਢੰਗ
- ਤੇਲ ਅਤੇ ਕਪੜੇ ਦੀ ਪਰਤ

ਹੇਠਾਂ ਦਿੱਤੇ ਵਿਕਲਪਾਂ ਵਿੱਚੋਂ ਸਹੀ ਉੱਤਰ ਚੁਣੋ:

- ਸਿਰਫ਼ A ਅਤੇ B
- ਸਿਰਫ਼ A ਅਤੇ C
- ਸਿਰਫ਼ A ਅਤੇ D
- ਸਿਰਫ਼ A ਅਤੇ E

Options :

485584144709. 1  
485584144710. 2  
485584144711. 3  
485584144712. 4

Question Number : 428 Question Id : 48558436178 Question Type : MCQ Option Shuffling : No Is Question Mandatory : No Calculator : None  
Response Time : N.A Think Time : N.A Minimum Instruction Time : 0

Correct Marks : 5 Wrong Marks : 1

Question Key Details :

Key	Value
Comprehension	MCQ2

ਵਾਸ਼ਲਿਸ਼ ਈਠਪਵੈ ਈਠਠ?

- ਐਕਯਾਲ਼ ਸੇਸ਼ਯਪੱਪੱਲ ਪਲਲਮੀਲਪੱਪੱਲ ਮੇਲਲੀਯ ਤਕਠੁ
- ਵੀਰੁਮਪੱਤੱਕੱਕ ਤਢੁਐਮਪੱ ਪੇਹੁਵਤਹੱਕੇਠ ਓੱਢੁ ਓਠਠਰਾਕਪੱਪੱਲਵੈ
- ਊਯਹੱਕੈਯੀਯਲ਼ ਮੀਤਾਠ ਠਾੱਲਲਮ
- ਏਠੁੱਤੁਰੈਕੱਕੁਮ ਪਾਠਗੁਕਠ
- ਏਠਠਠਠਠਠਠ ਮਹੱਰੁਠਠ ਤੁਠਠੀ ਕੋਠਾਠਲ ਪਲਲਠਗਠ

ਐਠੁਠ ਤਰਪੱਪੱਠੁਠਠ ਵਾਠਪੱਪੁਕਠੀਲ਼ ਊਠੁਠੁ ਤੁਰੀਯਾਠ ਵੀਠਲਯੈਤੁ ਠੇਠਰੁਠੁਠੇਠੁਕੱਕਵੁਮ:

- A ਮਹੱਰੁਠਠ B ਮੱਠੁਠੁਠੁਠੁ
- A ਮਹੱਰੁਠਠ C ਮੱਠੁਠੁਠੁਠੁ
- A ਮਹੱਰੁਠਠ D ਮੱਠੁਠੁਠੁਠੁ
- A ਮਹੱਰੁਠਠ E ਮੱਠੁਠੁਠੁਠੁ

Options :

485584144709. 1  
485584144710. 2  
485584144711. 3  
485584144712. 4

Question Number : 428 Question Id : 48558436178 Question Type : MCQ Option Shuffling : No Is Question Mandatory : No Calculator : None  
Response Time : N.A Think Time : N.A Minimum Instruction Time : 0

Correct Marks : 5 Wrong Marks : 1

Question Key Details :



Key	Value
Comprehension	MCQ2

వాస్తవ అంటే ఏమిటి?

- పొరలుగా, చేతితో తయారు చేసిన సన్నని పీల్
- కావలసిన మందం పొందడానికి కలిసి అతుక్కొని
- సహజత్వానికి కూర్చుబడిన
- కథనం యొక్క పద్ధతులు
- నూనె మరియు వస్త్రంతో పొరలు చేయబడ్డాయి

క్రింద ఇవ్వబడిన వికల్పాలలో నుండి సరైన జవాబుని ఎంచుకోండి

1. A మరియు B మాత్రమే
2. A మరియు C మాత్రమే
3. A మరియు D మాత్రమే
4. A మరియు E మాత్రమే

Options :

485584144709. 1
485584144710. 2
485584144711. 3
485584144712. 4

Question Number : 428 Question Id : 48558436178 Question Type : MCQ Option Shuffling : No Is Question Mandatory : No Calculator : None Response Time : N.A Think Time : N.A Minimum Instruction Time : 0

Correct Marks : 5 Wrong Marks : 1

Question Key Details :

Key	Value
Comprehension	MCQ2

واستیس (Wastis) کیا ہیں ؟

- بانہ سے بنی ہلتی پرتوں والی کاغذ
- مطلوبہ موٹائی حاصل کرنے کے لئے ایک دوسرے کے ساتھ چبکانا
- فطرت پرستی کے لئے موزوں ہے
- وضاحت کے طریقے
- خُل اور کیڑوں کی پرتیں

نیچے سے درست جواب کا انتخاب کریں :

1. A اور B صرف
2. A اور C صرف
3. A اور D صرف
4. A اور E صرف

Options :

485584144709. 1
485584144710. 2
485584144711. 3
485584144712. 4

Question Number : 429 Question Id : 48558436179 Question Type : MCQ Option Shuffling : No Is Question Mandatory : No Calculator : None Response Time : N.A Think Time : N.A Minimum Instruction Time : 0

Correct Marks : 5 Wrong Marks : 1

Question Key Details :

Key	Value
-----	-------

Identify the correct statements about Amrita Sher-Gil from the following options.

- A. Amrita Sheer-Gil was half Hungarian and half Indian
- B. She was trained in Canada
- C. She was influenced by Paul Klee
- D. Haldi Binder is the famous painting of Amrita Sher-Gil
- E. Amrita assimilated miniature traditions of Indian art with European modernism

Choose the correct answer from the options given below:

- 1. C and D only
- 2. A and D only
- 3. D and E only
- 4. A and E only

**Options :**

- 485584144713. 1
- 485584144714. 2
- 485584144715. 3
- 485584144716. 4

**Question Number : 429 Question Id : 48558436179 Question Type : MCQ Option Shuffling : No Is Question Mandatory : No Calculator : None Response Time : N.A Think Time : N.A Minimum Instruction Time : 0**

**Correct Marks : 5 Wrong Marks : 1**

**Question Key Details :**

Key	Value
Comprehension	MCQ2

निम्न विकल्पों में से अमृता शेर-गिल के बारे में सही कथन पहचानिए:

- A. अमृता शेर-गिल आधी हंगरियन और आधी भारतीय थी
- B. वह कनाडा में प्रशिक्षित थी
- C. वह पॉल क्ली से प्रभावित थी
- D. हल्दी बाइंडर अमृता शेर-गिल की प्रसिद्ध चित्रकारी है
- E. अमृता ने भारतीय लघु कला को यूरोपीय आधुनिकवाद के साथ समावेशित/आत्मसात किया

नीचे दिए गए विकल्पों में से सही उत्तर चुनिए:

- 1. C और D केवल
- 2. A और D केवल
- 3. D और E केवल
- 4. A और E केवल

**Options :**

- 485584144713. 1
- 485584144714. 2
- 485584144715. 3
- 485584144716. 4

**Question Number : 429 Question Id : 48558436179 Question Type : MCQ Option Shuffling : No Is Question Mandatory : No Calculator : None Response Time : N.A Think Time : N.A Minimum Instruction Time : 0**

**Correct Marks : 5 Wrong Marks : 1**

**Question Key Details :**

Key	Value
Comprehension	MCQ2

অমৃতা শেরগীলৰ কোনটো শুদ্ধ বাখ্যা ?

- A. অমৃতা শেরগীল আধা হাংগাৰিয়ান আৰু আধা ভাৰতীয়
- B. তেওঁ কানা ডাত প্ৰশিক্ষণ লৈছিল
- C. তেওঁ পল গ্লিন্সৰ দ্বাৰা অনুপ্রাণিত হৈছিল
- D. হালদী বাইন্দ্ৰাৰ অমৃতা শেরগীলৰ বিখ্যাত চিত্ৰশিল্প
- E. অমৃতাই ভাৰতীয় কলাৰ মিনিএছিউ পৰম্পৰা সহিত ইউৰোপীয়ান আধুনিকতাবাদ অন্তৰ্ভুক্ত কৰিছিল

- 1. কেৱলমাত্ৰ C আৰু D
- 2. কেৱলমাত্ৰ A আৰু D
- 3. কেৱলমাত্ৰ D আৰু E
- 4. কেৱলমাত্ৰ A আৰু E

Options :

- 485584144713. 1
- 485584144714. 2
- 485584144715. 3
- 485584144716. 4

Question Number : 429 Question Id : 48558436179 Question Type : MCQ Option Shuffling : No Is Question Mandatory : No Calculator : None Response Time : N.A Think Time : N.A Minimum Instruction Time : 0

Correct Marks : 5 Wrong Marks : 1

Question Key Details :

Key	Value
Comprehension	MCQ2

অমৃতা শেরগীলৰ সন্মুখে সঠিক বিবৃতি কোনটি .

- A. অমৃতা শেরগীল আধা ভাৰতীয় আৰু আধা হাংগাৰিয়ান
- B. তিনি কানাডায় প্ৰশিক্ষণ প্ৰাপ্ত হৈছিল
- C. পল গ্লিন্সৰ দ্বাৰা তিনি প্ৰভাৱিত হৈছিল
- D. অমৃতা শেরগীলৰ বিখ্যাত চিত্ৰ হল হালদী ইন্দ্ৰ
- E. অমৃতা ভাৰতীয় চিত্ৰকলাকে ইউৰোপীয়ান মডাৰ্নিজম বা আধুনিকতাবাদৰ দ্বাৰা সংক্ষিপ্তকৰণৰ এক প্ৰতিহা তৈৰী কৰেছিল

সঠিক উত্তৰটি নিৰ্ধাৰণ কৰ:

- 1. কেৱলমাত্ৰ C এবং D
- 2. কেৱলমাত্ৰ A এবং D
- 3. কেৱলমাত্ৰ D এবং E
- 4. কেৱলমাত্ৰ A এবং E

Options :

- 485584144713. 1
- 485584144714. 2
- 485584144715. 3
- 485584144716. 4

Question Number : 429 Question Id : 48558436179 Question Type : MCQ Option Shuffling : No Is Question Mandatory : No Calculator : None Response Time : N.A Think Time : N.A Minimum Instruction Time : 0

Correct Marks : 5 Wrong Marks : 1

Question Key Details :

Key	Value
-----	-------

આપેલ વિકલ્પોમાંથી અખિતા શેર ગીલ માટેના સાચા નિવેદન ઓળખો.

- અમૃતા શેર ગીલ અડધી હંગેરીયન અને અડધી ભારતીય હતી.
- તે કેનેડામાં તાલીમ પામેલ હતી.
- તે પોલ ક્રિસથી પ્રભાવિત હતી.
- હલ્દી બિંડર એ અમૃતા શેર ગીલનું પ્રખ્યાત પેઈન્ટિંગ હતું.
- અમૃતાએ યુરોપીયન આધુનિકતાવાદ સાથે ભારતીય કલાની લઘુચિત્ર પંપરાઓને આત્મસાત કરી.

નીચે આપેલા વિકલ્પોમાંથી સાચો જવાબ પસંદ કરો.

- માત્ર C અને D
- માત્ર A અને D
- માત્ર D અને E
- માત્ર A અને E

**Options :**

485584144713. 1
485584144714. 2
485584144715. 3
485584144716. 4

**Question Number : 429 Question Id : 48558436179 Question Type : MCQ Option Shuffling : No Is Question Mandatory : No Calculator : None Response Time : N.A Think Time : N.A Minimum Instruction Time : 0**

**Correct Marks : 5 Wrong Marks : 1**

**Question Key Details :**

Key	Value
Comprehension	MCQ2

કેલ્કેન આયોગોના અધ્યક્ષ શેર-ગીલર બર્ગ, સરિયાદ ઠેરજેકોનનુ ગુરુત્તિ.

- અમૃત શેર-ગીલ અર્ધ કંગરિયનવલુ મત્તુ અર્ધ ભારતીયલુ
- અવલુ કેનેડાદલ્લિ તરબેતિ પદદિદ્દલુ
- અવલુ પોલ ક્રિસથીંદ પ્રભાવિતલુ
- કાલ્લિ બિંડર યુ અમૃત શેર-ગીલર પ્રસિદ્ધ ચિત્રકલે
- અમૃત ભારતીય કલેય કિરુ શાંપ્રદાયીકતેલનુ યુરોપીન અધુનિકતે જીલેત સંયોજસિદ્દલુ.

કેલ્કે નીરુવ આયોગોના સરિયાદ ઠેરજેકોનનુ અરિસિ:

- C મત્તુ D મત્તુ
- A મત્તુ D મત્તુ
- D મત્તુ E મત્તુ
- A મત્તુ E મત્તુ

**Options :**

485584144713. 1
485584144714. 2
485584144715. 3
485584144716. 4

**Question Number : 429 Question Id : 48558436179 Question Type : MCQ Option Shuffling : No Is Question Mandatory : No Calculator : None Response Time : N.A Think Time : N.A Minimum Instruction Time : 0**

**Correct Marks : 5 Wrong Marks : 1**

**Question Key Details :**

Key	Value
Comprehension	MCQ2

അമൃത ഷേർ - ഗില്ലിനെ സംബന്ധിച്ച ശരിയായ പ്രസ്താവനകൾ ഏതെല്ലാം ?

- A. ഹങ്കേറിയൻ - ഇന്ത്യൻ വംശയാണ് അമൃത് ഷേർ-ഗിൽ
- B. കാനഡയിൽ നിന്നാണ് പരിശീലനം നേടിയത്.
- C. പോൾ ക്ലിയാണ് കൂടുതൽ സ്വാധീനിച്ചിട്ടുള്ളത്
- D. ഹൽദി ഇന്ദർ അമൃത ഷേർ-ഗില്ലിന്റെ ഏറ്റവും പ്രമുഖ പെയിന്റിങ്ങ്.
- E. ഇന്ത്യയിൽ ചിത്രകലാ പാരമ്പര്യത്തെയും യൂറോപ്യൻ ആധുനികതയും സംയോജിപ്പിച്ച വ്യക്തിയാണ് അമൃത.

താഴെ നൽകിയിട്ടുള്ളവയിൽ നിന്ന് ശരിയായ ഉത്തരം തിരഞ്ഞെടുക്കുക:

- 1. C, D മാത്രം
- 2. A, D മാത്രം
- 3. D, E മാത്രം
- 4. A, E മാത്രം

Options :

- 485584144713. 1
- 485584144714. 2
- 485584144715. 3
- 485584144716. 4

Question Number : 429 Question Id : 48558436179 Question Type : MCQ Option Shuffling : No Is Question Mandatory : No Calculator : None Response Time : N.A Think Time : N.A Minimum Instruction Time : 0

Correct Marks : 5 Wrong Marks : 1

Question Key Details :

Key	Value
Comprehension	MCQ2

अमृता शेर-गील यांच्या संदर्भातील अचूक विधान ओळखा

- A. अमृता शेर-गील या अर्धा हंगेरियन आणि अर्धा भारतीय आहेत.
- B. त्यांचे प्रशिक्षण कॅनडा येथे झाले.
- C. त्या पॉल क्ली यांवर प्रभावित झाल्या.
- D. "हल्दी ग्रॅंडर" (हल्दी कांडप) हे विख्यात चित्र अमृता शेर गील यांचे आहे.
- E. अमृता यांनी भारतीय कलेच्या लघु परंपरेला युरोपियन आधुनिकतेसह आत्मसात केले.

खालील पर्यायातून अचूक उत्तर शोधा.

- 1. केवळ C आणि D
- 2. केवळ A आणि D
- 3. केवळ D आणि E
- 4. केवळ A आणि E

Options :

- 485584144713. 1
- 485584144714. 2
- 485584144715. 3
- 485584144716. 4

Question Number : 429 Question Id : 48558436179 Question Type : MCQ Option Shuffling : No Is Question Mandatory : No Calculator : None Response Time : N.A Think Time : N.A Minimum Instruction Time : 0

Correct Marks : 5 Wrong Marks : 1

**Question Key Details :**

Key	Value
Comprehension	MCQ2

ଅମ੍ਰਿਤਾ ਖੇਮ-ਗਿੱਲ ਦਾ ਕੋਲੈਕਸ਼ਨ ਕੌਰਟ ਆਫ਼ ਆਰਟ ਫੋਰ ਇੰਡੀਆ ਹੈ।

- ਅਮ੍ਰਿਤਾ ਖੇਮ-ਗਿੱਲ ਨੇ ਆਪਣੀ ਕਲਾ ਨੂੰ ਆਪਣੇ ਆਪਣੇ ਸੱਭਿਆਚਾਰ ਨਾਲ ਜੋੜਿਆ।
- ਆਰਟ ਫੋਰ ਇੰਡੀਆ ਕੋਲੈਕਸ਼ਨ ਹੈ।
- ਅਮ੍ਰਿਤਾ ਖੇਮ-ਗਿੱਲ ਨੇ ਆਪਣੀ ਕਲਾ ਨੂੰ ਆਪਣੇ ਆਪਣੇ ਸੱਭਿਆਚਾਰ ਨਾਲ ਜੋੜਿਆ।
- ਅਮ੍ਰਿਤਾ ਖੇਮ-ਗਿੱਲ ਨੇ ਆਪਣੀ ਕਲਾ ਨੂੰ ਆਪਣੇ ਆਪਣੇ ਸੱਭਿਆਚਾਰ ਨਾਲ ਜੋੜਿਆ।
- Amrita assimilated miniature traditions of Indian art with European modernism.

ਹੇਠ ਲਿਖੇ ਵਿਕਲਪਾਂ ਵਿੱਚੋਂ ਸਹੀ ਉੱਤਰ ਚੁਣੋ:

- ਸਹੀ ਉੱਤਰ C ਅਤੇ D
- ਸਹੀ ਉੱਤਰ A ਅਤੇ D
- ਸਹੀ ਉੱਤਰ D ਅਤੇ E
- ਸਹੀ ਉੱਤਰ A ਅਤੇ E

**Options :**

485584144713. 1
485584144714. 2
485584144715. 3
485584144716. 4

Question Number : 429 Question Id : 48558436179 Question Type : MCQ Option Shuffling : No Is Question Mandatory : No Calculator : None Response Time : N.A Think Time : N.A Minimum Instruction Time : 0

Correct Marks : 5 Wrong Marks : 1

**Question Key Details :**

Key	Value
Comprehension	MCQ2

ਹੇਠ ਲਿਖੇ ਵਿਕਲਪਾਂ ਵਿੱਚੋਂ ਅਮ੍ਰਿਤਾ ਖੇਮ ਗਿੱਲ ਲਈ ਸਹੀ ਕਥਨ ਪਛਾਣੋ।

- ਅਮ੍ਰਿਤਾ ਖੇਮ ਗਿੱਲ ਆਪਣੀ ਕਲਾ ਨੂੰ ਆਪਣੇ ਆਪਣੇ ਸੱਭਿਆਚਾਰ ਨਾਲ ਜੋੜਿਆ।
- ਉਸਨੇ ਕੋਲੈਕਸ਼ਨ ਵਿੱਚ ਪ੍ਰੀਖਣ ਕੀਤਾ।
- ਉਹ ਪਾਲ ਕਲੀ ਤੋਂ ਪ੍ਰਭਾਵਿਤ ਸੀ।
- ਹਲਦੀ ਗਰਾਈਡਰ ਅਮ੍ਰਿਤਾ ਖੇਮ ਗਿੱਲ ਦੀ ਪ੍ਰਸਿੱਧ ਪੇਂਟਿੰਗ ਹੈ।
- ਅਮ੍ਰਿਤਾ ਨੇ ਭਾਰਤੀ ਕਲਾ ਦੀਆਂ ਲਘੂ ਪਰੰਪਰਾਵਾਂ ਨੂੰ ਯੂਰੋਪੀਅਨ ਆਧੁਨਿਕਤਾ ਨਾਲ ਜੋੜਿਆ।

ਹੇਠ ਲਿਖੇ ਵਿਕਲਪਾਂ ਵਿੱਚੋਂ ਸਹੀ ਉੱਤਰ ਚੁਣੋ:

- ਸਹੀ ਉੱਤਰ C ਅਤੇ D
- ਸਹੀ ਉੱਤਰ A ਅਤੇ D
- ਸਹੀ ਉੱਤਰ D ਅਤੇ E
- ਸਹੀ ਉੱਤਰ A ਅਤੇ E

**Options :**

485584144713. 1
485584144714. 2
485584144715. 3
485584144716. 4

Question Number : 429 Question Id : 48558436179 Question Type : MCQ Option Shuffling : No Is Question Mandatory : No Calculator : None Response Time : N.A Think Time : N.A Minimum Instruction Time : 0

Correct Marks : 5 Wrong Marks : 1

Question Key Details :

Key	Value
Comprehension	MCQ2

அமரித ஷேர்-கில் என்பவரைப் பற்றிய சரியான கூற்றுக்களை பின்வரும் தெரிவுகளிலிருந்து கண்டறிக:

- அமரித ஷேர்-கில் என்பவர் பாதி ஹங்கேரி நாட்டவர் என்றும் பாதி இந்தியர் எனலாம்.
- அவர் கனடாவில் பயிற்சி பெற்றவர்
- பெளல் க்ளீ என்பவரின் தாக்கம் இவர் மீது இருந்தது
- "ஹல்கி பிந்தர்" என்பது அமரித ஷேர்-கில்லது புகழ்பெற்ற ஓவியம் ஆகும்
- அமரித இந்தியக் கலையின் சிற்றளவு பாரம்பரியத்தை ஐரோப்பிய நவீனமயமாக்கத்தோடு உள்வாங்கிக் கலந்தவர்

கீழே தரப்பட்டுள்ள வாய்ப்புகளில் இருந்து சரியான விடையைத் தேர்ந்தெடுக்கவும்:

- C மற்றும் D மட்டுமே
- A மற்றும் D மட்டுமே
- D மற்றும் E மட்டுமே
- A மற்றும் E மட்டுமே

Options :

485584144713. 1
485584144714. 2
485584144715. 3
485584144716. 4

Question Number : 429 Question Id : 48558436179 Question Type : MCQ Option Shuffling : No Is Question Mandatory : No Calculator : None Response Time : N.A Think Time : N.A Minimum Instruction Time : 0

Correct Marks : 5 Wrong Marks : 1

Question Key Details :

Key	Value
Comprehension	MCQ2

கிரீன் டி வாஸில் அமூத்-பேர்-கில் நி கிரீன் டி வாஸில் சரீன் விவரணை கிரீன் டி வாஸில்

- அமூத்-பேர்-கில் சரீன் டி வாஸில் மெரியு சரீன் டி வாஸில்
- அமூத்-பேர்-கில் சரீன் டி வாஸில்
- அமூத்-பேர்-கில் சரீன் டி வாஸில்
- அமூத்-பேர்-கில் சரீன் டி வாஸில்
- அமூத்-பேர்-கில் சரீன் டி வாஸில்

கிரீன் டி வாஸில் சரீன் டி வாஸில் சரீன் டி வாஸில்

- C மற்றும் D மட்டுமே
- A மற்றும் D மட்டுமே
- D மற்றும் E மட்டுமே
- A மற்றும் E மட்டுமே

Options :

485584144713. 1  
485584144714. 2  
485584144715. 3  
485584144716. 4

Question Number : 429 Question Id : 48558436179 Question Type : MCQ Option Shuffling : No Is Question Mandatory : No Calculator : None  
Response Time : N.A Think Time : N.A Minimum Instruction Time : 0

Correct Marks : 5 Wrong Marks : 1

Question Key Details :

Key	Value
Comprehension	MCQ2

نیچے کے زمروں سے امرینا شیرگل کے بارے میں صحیح بیانات کا درست انتخاب کریں :

- A. امرینا شیر گل آدھی ہندوستانی اور آدھی بنگالی ہیں  
B. وہ کئیلا میں ٹرینٹ پائی ہے  
C. وہ پل علی سے متاثر تھیں  
D. بلدی ہسپتال والی شیر گل کی مشہور پینٹنگ ہے  
E. امرینا نے ہندوستانی فن کی چھوٹی شہرہ روایت کو یورپی جدیدیت کے ساتھ ہم آہنگ کیا

نیچے سے درست جواب کا انتخاب کریں :

1. C اور D صرف
2. A اور D صرف
3. D اور E صرف
4. A اور E صرف

Options :

485584144713. 1  
485584144714. 2  
485584144715. 3  
485584144716. 4

Question Number : 430 Question Id : 48558436180 Question Type : MCQ Option Shuffling : No Is Question Mandatory : No Calculator : None  
Response Time : N.A Think Time : N.A Minimum Instruction Time : 0

Correct Marks : 5 Wrong Marks : 1

Question Key Details :

Key	Value
Comprehension	MCQ2

What is symbolised by the "Ashoka Chakra" which is used in Indian National Flag in blue colour?

- A. Twenty four hours of a day-development and motion
- B. Twenty four minutes of time-action and work
- C. Twenty four days of month-day and night
- D. Twenty four years of life-success and pride
- E. Continuous progress and development of the Country

Choose the correct answer from the options given below:

1. A and E only
2. B and D only
3. A and D only
4. C and B only

Options :

485584144717. 1  
485584144718. 2  
485584144719. 3



Question Number : 430 Question Id : 48558436180 Question Type : MCQ Option Shuffling : No Is Question Mandatory : No Calculator : None  
Response Time : N.A Think Time : N.A Minimum Instruction Time : 0

Correct Marks : 5 Wrong Marks : 1

Question Key Details :

Key	Value
Comprehension	MCQ2

भारतीय राष्ट्रीय ध्वज में प्रयुक्त "आशिक चक्र" किसका प्रतीक है?

- A. एक दिन के चौबीस घंटे-विकास और गति
- B. चौबीस मिनट्स-समय-क्रिया और कार्य
- C. चौबीस दिन-महीने के दिन और रात
- D. चौबीस वर्ष-जीवन की सफलता और गर्व
- E. राष्ट्र की सतत उन्नति और विकास

नीचे दिए गए विकल्पों में से सही उत्तर चुनिए:

- 1. A और E केवल
- 2. B और D केवल
- 3. A और D केवल
- 4. C और B केवल

Options :

485584144717. 1

485584144718. 2

485584144719. 3

485584144720. 4

Question Number : 430 Question Id : 48558436180 Question Type : MCQ Option Shuffling : No Is Question Mandatory : No Calculator : None  
Response Time : N.A Think Time : N.A Minimum Instruction Time : 0

Correct Marks : 5 Wrong Marks : 1

Question Key Details :

Key	Value
Comprehension	MCQ2

ভাৰতীয় ৰাষ্ট্ৰীয় পতাকাৰ আশোক চক্ৰই কি বুজায় ?

- A. এটি দিনৰ ২৪ ঘন্টা - বিকাশ আৰু গতি
- B. ২৪ মিনিটৰ সময় আৰু কাম
- C. ২৪ দিনৰ মাহ দিন আৰু ৰাতি
- D. ২৪ বছৰৰ জীৱন, সফলতা আৰু গৰ্ব
- E. দেশৰ অবিৰত উন্নতি আৰু বিকাশ

- 1. কেৱলমাত্ৰ A আৰু E
- 2. কেৱলমাত্ৰ B আৰু D
- 3. কেৱলমাত্ৰ A আৰু D
- 4. কেৱলমাত্ৰ C আৰু B

Options :

485584144717. 1

485584144718. 2

485584144719. 3

Question Number : 430 Question Id : 48558436180 Question Type : MCQ Option Shuffling : No Is Question Mandatory : No Calculator : None  
Response Time : N.A Think Time : N.A Minimum Instruction Time : 0  
Correct Marks : 5 Wrong Marks : 1

Question Key Details :

Key	Value
Comprehension	MCQ2

ভারতীয় পতাকায় অশোক চক্রটির তাৎপর্য কি বা অশোক চক্রটি কিসের প্রতীক ?

- A. প্রতি ২৪ ঘন্টায় উন্নতি এবং গতি
- B. প্রতি ২৪ মিনিটের আকশন ও কর্ম
- C. এক মাসের ২৪ দিনের দিন-রাত্রি
- D. জীবনের ২৪ তম বছরের সাফল্য ও গর্ব
- E. দেশের অবিরত উন্নতি এবং অগ্রসর হওয়া

সঠিক উত্তরটি বেছে নাও :

- 1. কেবলমাত্র A এবং E
- 2. কেবলমাত্র B এবং D
- 3. কেবলমাত্র A এবং D
- 4. কেবলমাত্র C এবং B

Options :

- 485584144717. 1
- 485584144718. 2
- 485584144719. 3
- 485584144720. 4

Question Number : 430 Question Id : 48558436180 Question Type : MCQ Option Shuffling : No Is Question Mandatory : No Calculator : None  
Response Time : N.A Think Time : N.A Minimum Instruction Time : 0  
Correct Marks : 5 Wrong Marks : 1

Question Key Details :

Key	Value
Comprehension	MCQ2

সারতনা রাষ্ট্রীয় ধ্বজমাং আবেব অশোক য়ক শীন্সু প্রতিক ঙ্গ ?

- A. ঙ্গবসনা য়ৌবীস ঙ্গবাস-বিকাস ঞ্গনে ঙ্গতি
- B. য়ৌবীস মিন্গটনৌ সময-ক্রিয়া ঞ্গনে ঙ্গার্য
- C. মঙ্গিনানা য়ৌবীস ঙ্গিবস-ঙ্গিবস ঞ্গনে রাত
- D. ঙ্গুবননা য়ৌবীস বর্ষ সঙ্গণতা ঞ্গনে ঙ্গৌরব
- E. ঙ্গেশনী সতত প্রজতি ঞ্গনে বিকাশ

নীয়ে আবেবা বিকল্যৌমাংথৌ সাথৌ ঙ্গবাব পসং ঙ্গরৌ.

- 1. মাত্র A ঞ্গনে E
- 2. মাত্র B ঞ্গনে D
- 3. মাত্র A ঞ্গনে D
- 4. মাত্র C ঞ্গনে B

Options :

- 485584144717. 1
- 485584144718. 2
- 485584144719. 3



485584144719. 3  
485584144720. 4

Question Number : 430 Question Id : 48558436180 Question Type : MCQ Option Shuffling : No Is Question Mandatory : No Calculator : None  
Response Time : N.A Think Time : N.A Minimum Instruction Time : 0

Correct Marks : 5 Wrong Marks : 1

Question Key Details :

Key	Value
Comprehension	MCQ2

भारतीय राष्ट्रीय ध्वजावरील अशोक चक्र कशाचे प्रतिक आहे?

- A. दिवसातील चौवीस तासातील विकास आणि गती
- B. चौवीस मिनिट वेळेतील क्रिया आणि काम
- C. महिन्यातील चौवीस दिवसातील दिवस आणि रात्र
- D. चौवीस वर्षातील जीवनातील यश आणि अभियान
- E. देशाची सतत होणारी प्रगती आणि विकास

खालील पर्यायातून अचूक उत्तर शोधा

- 1. केवळ A आणि E
- 2. केवळ B आणि D
- 3. केवळ A आणि D
- 4. केवळ C आणि B

Options :

485584144717. 1  
485584144718. 2  
485584144719. 3  
485584144720. 4

Question Number : 430 Question Id : 48558436180 Question Type : MCQ Option Shuffling : No Is Question Mandatory : No Calculator : None  
Response Time : N.A Think Time : N.A Minimum Instruction Time : 0

Correct Marks : 5 Wrong Marks : 1

Question Key Details :

Key	Value
Comprehension	MCQ2

'अज्ञानं तत्र' हेचल्लेखीं मावलाय माशुड सुत ले वयवसूत कुं व लाया लल वशीं ?

- A. 14 वषा-६९-६९ललपणेक
- B. 14 लेलेक-७७७-७७७७-७७७७
- C. 14 वषा अल लल-६९-७७७७
- D. 14 वषा अल लल-७७७७-७७७७-७७७७
- E. लेलेल लेलेल-७७७७ माशु ल ललले

दिलेलायवला लेलेलु वडल लेलेल लेलेलु:

- 1. लेलेल A-७७७७ E
- 2. लेलेल B-७७७७ D
- 3. लेलेल A-७७७७ D
- 4. लेलेल C-७७७७ B

Options :

485584144717. 1  
485584144718. 2  
485584144719. 3  
485584144720. 4

Question Number : 430 Question Id : 48558436180 Question Type : MCQ Option Shuffling : No Is Question Mandatory : No Calculator : None  
Response Time : N.A Think Time : N.A Minimum Instruction Time : 0

Correct Marks : 5 Wrong Marks : 1

Question Key Details :

Key	Value
Comprehension	MCQ2

ਭਾਰਤ ਦੇ ਰਾਸ਼ਟਰੀ ਝੰਡੇ ਵਿੱਚ " ਅਸ਼ੋਕ ਚੱਕਰ " ਦੁਆਰਾ ਕੀ ਦਰਸਾਇਆ ਜਾਂਦਾ ਹੈ?

- A. ਦਿਨ ਦੇ 24 ਘੰਟੇ ਵਿਕਾਸ ਅਤੇ ਗਤੀ ਲਈ ਕਾਰਜ
- B. 24 ਮਿੰਟ ਲਈ ਵਾਰ ਕਾਰਵਾਈ
- C. ਮਹੀਨੇ ਦੇ 24 ਦਿਨਾਂ ਨਾਲ ਸੰਬੰਧਿਤ ਦਿਨ ਅਤੇ ਰਾਤਾਂ
- D. ਜੀਵਨ ਦੇ 24 ਸਾਲਾਂ ਦੀ ਸਫਲਤਾ ਅਤੇ ਗੌਰਵ
- E. ਦੇਸ਼ ਦਾ ਨਿਰੰਤਰ ਵਿਕਾਸ ਅਤੇ ਤਰੱਕੀ

ਹੇਠਾਂ ਦਿੱਤੇ ਵਿਕਲਪਾਂ ਵਿੱਚੋਂ ਸਹੀ ਉੱਤਰ ਚੁਣੋ.

- 1. ਸਿਰਫ਼ A ਅਤੇ E
- 2. ਸਿਰਫ਼ B ਅਤੇ D
- 3. ਸਿਰਫ਼ A ਅਤੇ D
- 4. ਸਿਰਫ਼ C ਅਤੇ B

Options :

485584144717. 1  
485584144718. 2  
485584144719. 3  
485584144720. 4

Question Number : 430 Question Id : 48558436180 Question Type : MCQ Option Shuffling : No Is Question Mandatory : No Calculator : None  
Response Time : N.A Think Time : N.A Minimum Instruction Time : 0

Correct Marks : 5 Wrong Marks : 1

Question Key Details :

Key	Value
Comprehension	MCQ2

இந்தியா தேசியக்கொடியில் பயன்படுத்தப்படும் "அசோக சக்கரம்" குறிப்பிடுவது யாது?

- A. ஓர் நாள்-மேம்பாடு மற்றும் நகர்வின் இருபத்து நான்கு மணிநேரங்கள்
- B. நேரம்-செயல் மற்றும் வேலையின் இருபத்து நான்கு நிமிடங்கள்
- C. மாத-நாள் மற்றும் பெருமிதத்தின் இருபத்து நான்கு ஆண்டுகள்
- D. வாழ்வு-வெற்றி மற்றும் பெருமிதத்தின் இருபத்து நான்கு ஆண்டுகள்
- E. நாட்டின் தொடர்ச்சியான முன்னேற்றம் மற்றும் மேம்பாடு

கீழே தரப்பட்டுள்ள வாய்ப்புகளில் இருந்து சரியான விடையைத் தேர்ந்தெடுக்கவும்:

- 1. A மற்றும் E மட்டுமே
- 2. B மற்றும் D மட்டுமே
- 3. A மற்றும் D மட்டுமே
- 4. C மற்றும் B மட்டுமே

**Options :**

485584144717. 1  
485584144718. 2  
485584144719. 3  
485584144720. 4

**Question Number : 430 Question Id : 48558436180 Question Type : MCQ Option Shuffling : No Is Question Mandatory : No Calculator : None Response Time : N.A Think Time : N.A Minimum Instruction Time : 0**

**Correct Marks : 5 Wrong Marks : 1**

**Question Key Details :**

Key	Value
Comprehension	MCQ2

భారతీయ జాతీయ పతాకం లోని అశోక చక్రము దేనిని తెలియజేస్తుంది?

- A. రోజులోని 24 గంటల అభివృద్ధి మరియు ప్రగతి  
B. 24 నిమిషాల సమయము చర్య మరియు పని  
C. నెలలోని 24 రోజుల రాత్రి మరియు పగలు  
D. జీవితంలోని 24 సంవత్సరాల విజయము మరియు గర్వము  
E. నిరంతర గమనం మరియు అభివృద్ధితో కూడిన దేశం

క్రింది వికల్పాలలో సరైన సమాధానం ఎంచుకోండి.

1. A మరియు E మాత్రమే  
2. B మరియు D మాత్రమే  
3. A మరియు D మాత్రమే  
4. C మరియు B మాత్రమే

**Options :**

485584144717. 1  
485584144718. 2  
485584144719. 3  
485584144720. 4

**Question Number : 430 Question Id : 48558436180 Question Type : MCQ Option Shuffling : No Is Question Mandatory : No Calculator : None Response Time : N.A Think Time : N.A Minimum Instruction Time : 0**

**Correct Marks : 5 Wrong Marks : 1**

**Question Key Details :**

Key	Value
Comprehension	MCQ2

“అశోకా చక్ర” (Ashoka Chakra) కు సమీకృతం ఏది? దీనిని ఏ కాలంలో ఉపయోగించారు?

- A. దీనిని జాతీయ చిహ్నం గా తీసుకువచ్చారు.  
B. దీనిని కాలం గా తీసుకువచ్చారు.  
C. దీనిని జాతీయ చిహ్నం గా తీసుకువచ్చారు.  
D. దీనిని జాతీయ చిహ్నం గా తీసుకువచ్చారు.  
E. దీనిని జాతీయ చిహ్నం గా తీసుకువచ్చారు.

సరైన సమాధానం ఎంచుకోండి :

1. A మరియు E మాత్రమే  
2. B మరియు D మాత్రమే  
3. A మరియు D మాత్రమే  
4. C మరియు B మాత్రమే

**Options :**

485584144717. 1  
485584144718. 2  
485584144719. 3  
485584144720. 4

Question Number : 431 Question Id : 48558436181 Question Type : MCQ Option Shuffling : No Is Question Mandatory : No Calculator : None  
Response Time : N.A Think Time : N.A Minimum Instruction Time : 0

Correct Marks : 5 Wrong Marks : 1

Question Key Details :

Key	Value
Comprehension	MCQ2

Match List I with List II

LIST I		LIST II	
A.	Mithila	I.	Odisha
B.	Prithoro	II.	Bihar
C.	Pattachitra	III.	Gujarat
D.	Pachwan	IV.	Rajasthan

Choose the correct answer from the options given below:

1. A-I, B-IV, C-II, D-III
2. A-II, B-III, C-I, D-IV
3. A-I, B-II, C-III, D-IV
4. A-I, B-III, C-II, D-IV

Options :

485584144721. 1  
485584144722. 2  
485584144723. 3  
485584144724. 4

Question Number : 431 Question Id : 48558436181 Question Type : MCQ Option Shuffling : No Is Question Mandatory : No Calculator : None  
Response Time : N.A Think Time : N.A Minimum Instruction Time : 0

Correct Marks : 5 Wrong Marks : 1

Question Key Details :

Key	Value
Comprehension	MCQ2

सूची I का सूची II के साथ मिलान कीजिए:

सूची I		सूची II	
A.	मिथिला	I.	उड़ीसा
B.	पिथौरा	II.	बिहार
C.	पट्टचित्र	III.	गुजरात
D.	पिच्चवई	IV.	राजस्थान

नीचे दिए गए विकल्पों में से सही उत्तर चुनिए:

1. A-I, B-IV, C-II, D-III
2. A-II, B-III, C-I, D-IV
3. A-I, B-II, C-III, D-IV
4. A-I, B-III, C-II, D-IV

Options :

485584144721. 1  
485584144722. 2

485584144723. 3  
485584144724. 4

Question Number : 431 Question Id : 48558436181 Question Type : MCQ Option Shuffling : No Is Question Mandatory : No Calculator : None  
Response Time : N.A Think Time : N.A Minimum Instruction Time : 0

Correct Marks : 5 Wrong Marks : 1

Question Key Details :

Key	Value
Comprehension	MCQ2

তালিকা I আৰু II মিলোৱা

তালিকা I	তালিকা II
A. মিথিলা	I. ডিড়শ্যা
B. পিথৰ	II. বিহাৰ
C. পট্টচিত্ৰ	III. গুজৰাট
D. পিছাই	IV. ৰাজস্থান

1. A-I, B-IV, C-II, D-III
2. A-II, B-III, C-I, D-IV
3. A-I, B-II, C-III, D-IV
4. A-I, B-III, C-II, D-IV

Options :

485584144721. 1  
485584144722. 2  
485584144723. 3  
485584144724. 4

Question Number : 431 Question Id : 48558436181 Question Type : MCQ Option Shuffling : No Is Question Mandatory : No Calculator : None  
Response Time : N.A Think Time : N.A Minimum Instruction Time : 0

Correct Marks : 5 Wrong Marks : 1

Question Key Details :

Key	Value
Comprehension	MCQ2

তালিকা ১ এৰ সঙ্গত তালিকা ২ মেলোও

তালিকা ১	তালিকা ২
A. মিথিলা	I. ঠাডিষ্যা
B. পিথৰে	II. বিহাৰ
C. পট্টচিত্ৰ	III. গুজৰাট
D. পিছাই	IV. ৰাজস্থান

সঠিক ম্যাচিংটি বেছে নোও

1. A-I, B-IV, C-II, D-III
2. A-II, B-III, C-I, D-IV
3. A-I, B-II, C-III, D-IV
4. A-I, B-III, C-II, D-IV

Options :

485584144721. 1  
485584144722. 2  
485584144723. 3



Question Number : 431 Question Id : 48558436181 Question Type : MCQ Option Shuffling : No Is Question Mandatory : No Calculator : None  
Response Time : N.A Think Time : N.A Minimum Instruction Time : 0

Correct Marks : 5 Wrong Marks : 1

Question Key Details :

Key	Value
Comprehension	MCQ2

સૂચિ I ને સૂચિ II સાથે જોડો.

સૂચિ I		સૂચિ II	
A.	મિથિલા	I.	બીહાર
B.	પિથોરો	II.	મધ્યપ્રદેશ
C.	પટલિત્ર	III.	ગુજરાત
D.	પિણવાઈ	IV.	રાજસ્થાન

નીચે આપેલા વિકલ્પોમાંથી સાચો જવાબ પસંદ કરો.

1. A-I, B-IV, C-II, D-III
2. A-II, B-III, C-I, D-IV
3. A-I, B-II, C-III, D-IV
4. A-I, B-III, C-II, D-IV

Options :

485584144721. 1  
485584144722. 2  
485584144723. 3  
485584144724. 4

Question Number : 431 Question Id : 48558436181 Question Type : MCQ Option Shuffling : No Is Question Mandatory : No Calculator : None  
Response Time : N.A Think Time : N.A Minimum Instruction Time : 0

Correct Marks : 5 Wrong Marks : 1

Question Key Details :

Key	Value
Comprehension	MCQ2

પટ્ટી - I અನ್ನು પટ્ટી - II ઠેક જોડો કરો.

પટ્ટી - I		પટ્ટી - II	
A.	મુઠ્ઠી	I.	બીહાર
B.	સિંદુર	II.	મધ્યપ્રદેશ
C.	પટ્ટી	III.	ગુજરાત
D.	સિંદુર	IV.	રાજસ્થાન

કેદારની નીચેના આયુર્વેદના સંસ્કૃત શાસ્ત્રોમાંથી સાચો જવાબ પસંદ કરો.

1. A-I, B-IV, C-II, D-III
2. A-II, B-III, C-I, D-IV
3. A-I, B-II, C-III, D-IV
4. A-I, B-III, C-II, D-IV

Options :

485584144721. 1  
485584144722. 2  
485584144723. 3  
485584144724. 4

Question Number : 431 Question Id : 48558436181 Question Type : MCQ Option Shuffling : No Is Question Mandatory : No Calculator : None Response Time : N.A Think Time : N.A Minimum Instruction Time : 0

Correct Marks : 5 Wrong Marks : 1

Question Key Details :

Key	Value
Comprehension	MCQ2

പട്ടിക I നെ പട്ടിക II മായി ചേർക്കുവാൻ ചേർക്കുക.

പട്ടിക I		പട്ടിക II	
A.	മിഥില	I.	ഒഡീഷ
B.	പിത്തോറ	II.	ബീഹാർ
C.	പട്ടാലി	III.	ഗുജറാത്ത്
D.	പിച്വാർ	IV.	രാജസ്ഥാൻ

താഴെ നൽകിയിട്ടുള്ളവയിൽ നിന്ന് ശരിയായ ഉത്തരം തിരഞ്ഞെടുക്കുക.

1. A-I, B-IV, C-II, D-III
2. A-II, B-III, C-I, D-IV
3. A-I, B-II, C-III, D-IV
4. A-I, B-III, C-II, D-IV

Options :

485584144721. 1
485584144722. 2
485584144723. 3
485584144724. 4

Question Number : 431 Question Id : 48558436181 Question Type : MCQ Option Shuffling : No Is Question Mandatory : No Calculator : None Response Time : N.A Think Time : N.A Minimum Instruction Time : 0

Correct Marks : 5 Wrong Marks : 1

Question Key Details :

Key	Value
Comprehension	MCQ2

यादी I ची यादी II शी जोडी लावा

यादी I		यादी II	
A.	मिथिला	I.	ओडिशा
B.	पिथौरा	II.	बिहार
C.	पत्तालिन	III.	गुजरात
D.	पिचवाई	IV.	राजस्थान

खालील पर्यायातून अचूक उत्तर शोधा

1. A-I, B-IV, C-II, D-III
2. A-II, B-III, C-I, D-IV
3. A-I, B-II, C-III, D-IV
4. A-I, B-III, C-II, D-IV

Options :

485584144721. 1
485584144722. 2
485584144723. 3
485584144724. 4

Question Number : 431 Question Id : 48558436181 Question Type : MCQ Option Shuffling : No Is Question Mandatory : No Calculator : None Response Time : N.A Think Time : N.A Minimum Instruction Time : 0

Correct Marks : 5 Wrong Marks : 1

Question Key Details :

Key	Value
Comprehension	MCQ2

ଉତ୍ପାଦନ I ଏବଂ ଉତ୍ପାଦନ II ମଧ୍ୟରେ କରନ୍ତୁ।

ଉତ୍ପାଦନ I		ଉତ୍ପାଦନ II	
A.	ମିଶ୍ରଣ	I.	କଢ଼ିବା
B.	ପିତ୍ତୋତ୍ତର	II.	ବିଦ୍ୟାଳୟ
C.	ପତ୍ରଚିତ୍ର	III.	ଗୁଡ଼ାଗଣ
D.	ପିନ୍ଧାବାସ	IV.	ଉପକରଣ

ଦିଆଯାଇଥିବା ବିକଳ୍ପରୁ ଯେଉଁ ଉତ୍ତରଟି ବାଛିବୁ:

1. A-I, B-IV, C-II, D-III
2. A-II, B-III, C-I, D-IV
3. A-I, B-II, C-III, D-IV
4. A-I, B-III, C-II, D-IV

Options :

485584144721. 1
485584144722. 2
485584144723. 3
485584144724. 4

Question Number : 431 Question Id : 48558436181 Question Type : MCQ Option Shuffling : No Is Question Mandatory : No Calculator : None Response Time : N.A Think Time : N.A Minimum Instruction Time : 0

Correct Marks : 5 Wrong Marks : 1

Question Key Details :

Key	Value
Comprehension	MCQ2

ମୁଖ୍ୟ I ଓ ମୁଖ୍ୟ II ମଧ୍ୟରେ ମିଶ୍ରଣ କରନ୍ତୁ:

ମୁଖ୍ୟ I		ମୁଖ୍ୟ II	
A.	ମିଶ୍ରଣ	I.	କଢ଼ିବା
B.	ପିତ୍ତୋତ୍ତର	II.	ବିଦ୍ୟାଳୟ
C.	ପତ୍ରଚିତ୍ର	III.	ଗୁଡ଼ାଗଣ
D.	ପିନ୍ଧାବାସ	IV.	ଉପକରଣ

ଦିଆଯାଇଥିବା ବିକଳ୍ପରୁ ଯେଉଁ ଉତ୍ତରଟି ବାଛିବୁ:

1. A-I, B-IV, C-II, D-III
2. A-II, B-III, C-I, D-IV
3. A-I, B-II, C-III, D-IV
4. A-I, B-III, C-II, D-IV

Options :

485584144721. 1
485584144722. 2
485584144723. 3
485584144724. 4

Question Number : 431 Question Id : 48558436181 Question Type : MCQ Option Shuffling : No Is Question Mandatory : No Calculator : None Response Time : N.A Think Time : N.A Minimum Instruction Time : 0

Correct Marks : 5 Wrong Marks : 1

Question Key Details :

Key	Value
Comprehension	MCQ2

பட்டியல் I ஐ பட்டியல் II உடன் பொருத்துக

பட்டியல் I	பட்டியல் II
A. மிஇலா	I. ஐடிஸா
B. பித்தோரா	II. பிஹார்
C. பட்டசித்ரா	III. ஜஜிராத்
D. பிச்சுவாய்	IV. ராஜஸ்தான்

கீழே தரப்பட்டுள்ள வாய்ப்புகளில் இருந்து சரியான விடையைத் தேர்ந்தெடுக்கவும்:

1. A-I, B-IV, C-II, D-III
2. A-II, B-III, C-I, D-IV
3. A-I, B-II, C-III, D-IV
4. A-I, B-III, C-II, D-IV

Options :

485584144721. 1
485584144722. 2
485584144723. 3
485584144724. 4

Question Number : 431 Question Id : 48558436181 Question Type : MCQ Option Shuffling : No Is Question Mandatory : No Calculator : None Response Time : N.A Think Time : N.A Minimum Instruction Time : 0

Correct Marks : 5 Wrong Marks : 1

Question Key Details :

Key	Value
Comprehension	MCQ2

ஜாவிதா I னி ஜாவிதா II ன் ஐதவ்யுண்டி

ஜாவிதா I	ஜாவிதா II
A. மிதில	I. உரிசா
B. பிதோரா	II. பிஹார்
C. பட்டசித்ரா	III. ஜஜிராத்
D. பிச்சுவாய்	IV. ராஜஸ்தான்

கீழ்க்கண்ட விக்கல்கலில் ஸரென் ஸ஢ா஢ன் ஂயுகீண்டி

1. A-I, B-IV, C-II, D-III
2. A-II, B-III, C-I, D-IV
3. A-I, B-II, C-III, D-IV
4. A-I, B-III, C-II, D-IV

Options :

485584144721. 1
485584144722. 2
485584144723. 3
485584144724. 4

Question Number : 431 Question Id : 48558436181 Question Type : MCQ Option Shuffling : No Is Question Mandatory : No Calculator : None Response Time : N.A Think Time : N.A Minimum Instruction Time : 0

Correct Marks : 5 Wrong Marks : 1

Question Key Details :

Key	Value
Comprehension	MCQ2

فہرست I کو فہرست II سے مائلیں

فہرست II	فہرست I
I. لڑپشا	A. مینہولا
II. بہار	B. پٹنہورا
III. گجرات	C. پٹانواترا
IV. راجستھان	D. بوبھرائی

نیچے سے درست جواب کا انتخاب کریں :

1. A-I, B-IV, C-II, D-III

2. A-II, B-III, C-I, D-IV

3. A-I, B-II, C-III, D-IV

4. A-I, B-III, C-II, D-IV

Options :

485584144721. 1

485584144722. 2

485584144723. 3

485584144724. 4

Question Number : 432 Question Id : 48558436182 Question Type : MCQ Option Shuffling : No Is Question Mandatory : No Calculator : None Response Time : N.A Think Time : N.A Minimum Instruction Time : 0

Correct Marks : 5 Wrong Marks : 1

Question Key Details :

Key	Value
Comprehension	MCQ2

Match List I with List II

LIST I		LIST II	
A.	Hazrat Nizamuddin Auliya and Amir Khusrau	I.	Queen of Bijapur
B.	Ragini Puthamsika	II.	Indo-Persian
C.	Chand Bibi Playing Polo	III.	Music of Ragumala Family
D.	Deccani School style	IV.	Hyderabad

Choose the correct answer from the options given below:

1. A-IV, B-III, C-I, D-II
2. A-III, B-IV, C-I, D-II
3. A-II, B-III, C-IV, D-I
4. A-I, B-II, C-III, D-IV

Options :

485584144725. 1  
485584144726. 2  
485584144727. 3  
485584144728. 4

Question Number : 432 Question Id : 48558436182 Question Type : MCQ Option Shuffling : No Is Question Mandatory : No Calculator : None Response Time : N.A Think Time : N.A Minimum Instruction Time : 0

Correct Marks : 5 Wrong Marks : 1

Question Key Details :

Key	Value
Comprehension	MCQ2

सूची I का सूची II के साथ मिलान कीजिए:

सूची I		सूची II	
A.	हज़रत निज़ामुद्दीन औलिया और अमीर ख़ुसरौ	I.	बीजापुर की रानी
B.	रागिनी पथमसिका	II.	भारतीय-फ़ारसी
C.	चाँद बीबी पोलो खेलते हुए	III.	रागमाला परिवार का संगीत
D.	दक्कनी चित्र शैली	IV.	हैदराबाद

नीचे दिए गए विकल्पों में से सही उत्तर चुनिए:

1. A-IV, B-III, C-I, D-II
2. A-III, B-IV, C-I, D-II
3. A-II, B-III, C-IV, D-I
4. A-I, B-II, C-III, D-IV

Options :

485584144725. 1  
485584144726. 2  
485584144727. 3  
485584144728. 4

Question Number : 432 Question Id : 48558436182 Question Type : MCQ Option Shuffling : No Is Question Mandatory : No Calculator : None Response Time : N.A Think Time : N.A Minimum Instruction Time : 0

Correct Marks : 5 Wrong Marks : 1

Question Key Details :

Key	Value
Comprehension	MCQ2

তালিকা I আৰু II মিলোৱা

তালিকা I		তালিকা II	
A.	হজ্জৰত নিজামুদ্দিন আৰু আমিৰ খুছৰাউ	I.	বিজ্ঞাপুৰৰ ৰানী
B.	ৰাগিনী পঞ্চমাচকা	II.	হিন্দো-পাৰ্চিয়ান
C.	চন্দ বিব প্ৰোয়ং পল	III.	ৰাগমালা পৰিয়ালৰ সংগীত
D.	ডেকানী জুনাৰ ধৰণ	IV.	হায়দ্ৰাবাদ

1. A-IV, B-III, C-I, D-II
2. A-III, B-IV, C-I, D-II
3. A-II, B-III, C-IV, D-I
4. A-I, B-II, C-III, D-IV

Options :

485584144725. 1
485584144726. 2
485584144727. 3
485584144728. 4

Question Number : 432 Question Id : 48558436182 Question Type : MCQ Option Shuffling : No Is Question Mandatory : No Calculator : None Response Time : N.A Think Time : N.A Minimum Instruction Time : 0

Correct Marks : 5 Wrong Marks : 1

Question Key Details :

Key	Value
Comprehension	MCQ2

লিস্ট ১ এবং ২ কে ম্যাচ কর

তালিকা ১		তালিকা ২	
A.	হজ্জৰত নিজামুদ্দিন আউনিয়া এবং আমিৰ খসৰু	I.	বিজ্ঞাপুৰেৰ ৰানী
B.	ৰাগিনী পঞ্চমাশখা	II.	হিন্দো পাৰ্চিয়ান
C.	চাঁদবিবি প্ৰোয়ং পোলো	III.	ৰাগমেলা পৰিবাৰেৰ সংগীত
D.	ডেকানী ঘৰানা স্টাইল	IV.	হায়দ্ৰাবাদ

সঠিক উত্তৰটি বেছে লেখ:

1. A-IV, B-III, C-I, D-II
2. A-III, B-IV, C-I, D-II
3. A-II, B-III, C-IV, D-I
4. A-I, B-II, C-III, D-IV

Options :

485584144725. 1
485584144726. 2
485584144727. 3
485584144728. 4

Question Number : 432 Question Id : 48558436182 Question Type : MCQ Option Shuffling : No Is Question Mandatory : No Calculator : None Response Time : N.A Think Time : N.A Minimum Instruction Time : 0

Correct Marks : 5 Wrong Marks : 1

Question Key Details :

Key	Value
Comprehension	MCQ2

સૂચિ I ને સૂચિ II સાથે જોડો.

સૂચિ I		સૂચિ II	
A.	કેજરત નિઝામુદ્દીન ઓલીયા અને અમીર ખુશરો	I.	બીજપુરની રાણી
B.	રાઝોબી પથમશિકા	II.	ભારતીય પરિચય
C.	પોલો સમતી ચાંદબીબી	III.	રાગમાળા પરિવારનું સંગીત
D.	ડેક્કની સ્ક્રિપ પ્રણાલી	IV.	કેદરાબાદ

નીચે આપેલા વિકલ્પોમાંથી સાચો જવાબ પસંદ કરો.

1. A-IV, B-III, C-I, D-II
2. A-III, B-IV, C-I, D-II
3. A-II, B-III, C-IV, D-I
4. A-I, B-II, C-III, D-IV

Options :

485584144725. 1  
485584144726. 2  
485584144727. 3  
485584144728. 4

Question Number : 432 Question Id : 48558436182 Question Type : MCQ Option Shuffling : No Is Question Mandatory : No Calculator : None Response Time : N.A Think Time : N.A Minimum Instruction Time : 0

Correct Marks : 5 Wrong Marks : 1

Question Key Details :

Key	Value
Comprehension	MCQ2

પઠ્ય - I અનુ પઠ્ય - II ર જોડે જોડો:

પઠ્ય - I		પઠ્ય - II	
A.	જાહાન્ના નિજામુદ્દીન ડેલીયા અને અમીર ખુશરો	I.	બીજપુરની રાણી
B.	રાઝોબી પથમશિકા	II.	ભારતીય પરિચય
C.	પોલો સમતી ચાંદબીબી	III.	રાગમાળા પરિવારનું સંગીત
D.	ડેક્કની સ્ક્રિપ પ્રણાલી	IV.	કેદરાબાદ

કેળાં નીચેના અર્થોમાંથી સાચો જવાબ પસંદ કરો:

1. A-IV, B-III, C-I, D-II
2. A-III, B-IV, C-I, D-II
3. A-II, B-III, C-IV, D-I
4. A-I, B-II, C-III, D-IV

Options :

485584144725. 1  
485584144726. 2  
485584144727. 3  
485584144728. 4

Question Number : 432 Question Id : 48558436182 Question Type : MCQ Option Shuffling : No Is Question Mandatory : No Calculator : None Response Time : N.A Think Time : N.A Minimum Instruction Time : 0

Correct Marks : 5 Wrong Marks : 1



**Question Key Details :**

Key	Value
Comprehension	MCQ2

പട്ടിക I നെ പട്ടിക II മായി ചേർത്തുപടി ചേർക്കുക

പട്ടിക I		പട്ടിക II	
A.	ഹ്രസ്വതൽ നിസാമുദ്ദീൻ ഔലിയയും, അമീർ ഹുസുറാവ	I.	ബിജാപൂരിലെ രാജ്ഞി
B.	രാഗിണി പാതാശരിക	II.	ഇന്ത്യാ-പേർഷ്യൻ
C.	പോളോ കളിക്കുന്ന ചാൻ ബീവി	III.	രാഗമാല കൃത്യംബ മ്യൂസിക്
D.	ഡക്കറൻ കലാ സമ്പ്രദായം	IV.	ഹൈദരാബാദ്

താഴെ നൽകിയിട്ടുള്ളവയിൽ നിന്ന് ശരിയായ ഉത്തരം തിരഞ്ഞെടുക്കുക:

1. A-IV, B-III, C-I, D-II
2. A-III, B-IV, C-I, D-II
3. A-II, B-III, C-IV, D-I
4. A-I, B-II, C-III, D-IV

**Options :**

- 485584144725. 1
- 485584144726. 2
- 485584144727. 3
- 485584144728. 4

Question Number : 432 Question Id : 48558436182 Question Type : MCQ Option Shuffling : No Is Question Mandatory : No Calculator : None Response Time : N.A Think Time : N.A Minimum Instruction Time : 0

Correct Marks : 5 Wrong Marks : 1

**Question Key Details :**

Key	Value
Comprehension	MCQ2

यादी I ची यादी II शी जोडी लावा

यादी I		यादी II	
A.	हुजरत निजामुद्दिन औलिया आणि आमिर खुशरोऊ	I.	बिजापूरची राणी
B.	रागिणी पधमसिका	II.	इन्डा परिषद
C.	पोलो खेळणारी चॅद बीबी	III.	रागमाता कुटुंबातील संगीत
D.	दख्खनी शाळा शैली	IV.	हैदराबाद

खालील पर्यायातून अचूक उत्तर शोधा.

1. A-IV, B-III, C-I, D-II
2. A-III, B-IV, C-I, D-II
3. A-II, B-III, C-IV, D-I
4. A-I, B-II, C-III, D-IV

**Options :**

- 485584144725. 1
- 485584144726. 2
- 485584144727. 3
- 485584144728. 4

Question Number : 432 Question Id : 48558436182 Question Type : MCQ Option Shuffling : No Is Question Mandatory : No Calculator : None Response Time : N.A Think Time : N.A Minimum Instruction Time : 0

Correct Marks : 5 Wrong Marks : 1

**Question Key Details :**

Key	Value
Comprehension	MCQ2

ଉତ୍ତର I ସହିତ ଉତ୍ତର II ମେଳ କରନ୍ତୁ।

ଉତ୍ତର I		ଉତ୍ତର II	
A.	ଫରଦର ଦିଗପୁସ୍ତିକ ଅନିଆ ଏବଂ ଅନିର ଭୂସ୍ତର	I.	ବ୍ୟାପ୍ତର ଉତ୍ତର
B.	ଉତ୍ତରୀ ପ୍ରାଣଜୀବୀ	II.	ଉତ୍ତର-ପ୍ରାଣଜୀବୀ
C.	ଚନ୍ଦ୍ର ବିଦି ପୋଷଣ ଶ୍ରେଣୀପ୍ରଣା	III.	ଉତ୍ତରୀ ପ୍ରାଣଜୀବୀ ଉତ୍ତର
D.	ବେଗଳା ସୁନା ଖୁଣ୍ଟ	IV.	ଉତ୍ତରୀ

ଦିଆଯାଇଥିବା ବିକଳ୍ପରୁ ଉଚିତ ଉତ୍ତରଟି ଚାନ୍ତୁ:

1. A-IV, B-III, C-I, D-II

2. A-III, B-IV, C-I, D-II

3. A-II, B-III, C-IV, D-I

4. A-I, B-II, C-III, D-IV

Options :

485584144725. 1

485584144726. 2

485584144727. 3

485584144728. 4

Question Number : 432 Question Id : 48558436182 Question Type : MCQ Option Shuffling : No Is Question Mandatory : No Calculator : None Response Time : N.A Think Time : N.A Minimum Instruction Time : 0

Correct Marks : 5 Wrong Marks : 1

Question Key Details :

Key	Value
Comprehension	MCQ2

ସୂଚୀ I ଓ ସୂଚୀ II ମଧ୍ୟରେ ମିଳାଣ କରନ୍ତୁ।

ସୂଚୀ I		ସୂଚୀ II	
A.	ପ୍ରାଚୀନ ନିଜାମୁଦିନ ଉତ୍ତରୀ ଉତ୍ତରୀ ଉତ୍ତର	I.	ଫୋସିଲର ଉତ୍ତର
B.	ଫୋସିଲର ପ୍ରାଣଜୀବୀ	II.	ଫୋସିଲର ପ୍ରାଣଜୀବୀ
C.	ଫୋସିଲର ଉତ୍ତରୀ ଉତ୍ତର	III.	ଫୋସିଲର ଉତ୍ତରୀ ଉତ୍ତର
D.	ଫୋସିଲର ଉତ୍ତରୀ ଉତ୍ତର	IV.	ଫୋସିଲର ଉତ୍ତରୀ ଉତ୍ତର

ଦିଆଯାଇଥିବା ବିକଳ୍ପରୁ ଉଚିତ ଉତ୍ତରଟି ଚାନ୍ତୁ:

1. A-IV, B-III, C-I, D-II

2. A-III, B-IV, C-I, D-II

3. A-II, B-III, C-IV, D-I

4. A-I, B-II, C-III, D-IV

Options :

485584144725. 1

485584144726. 2

485584144727. 3

485584144728. 4

Question Number : 432 Question Id : 48558436182 Question Type : MCQ Option Shuffling : No Is Question Mandatory : No Calculator : None Response Time : N.A Think Time : N.A Minimum Instruction Time : 0

Correct Marks : 5 Wrong Marks : 1

Question Key Details :



**Question Key Details :**

Key	Value
Comprehension	MCQ2

فہرست I کو فہرست II سے ملائیں

<b>فہرست II</b>	<b>فہرست I</b>
I. بیجاپور کی رانی	A. حضرت نظام الدین اولیا اور امیر خسرو
II. رگن پادری	B. راجگی پنہم سیکا
III. رگن پادری خاندان کا سنگت	C. جاک ای بی ڈوٹر کھنڈا رہی ہے
IV. جینا پادری	D. نکلی انداز کا اندکول

نیچے سے درست جواب کا انتخاب کریں :

1. A-IV, B-III, C-I, D-II
2. A-III, B-IV, C-I, D-II
3. A-II, B-III, C-IV, D-I
4. A-I, B-II, C-III, D-IV

**Options :**

485584144725. 1
485584144726. 2
485584144727. 3
485584144728. 4

Question Number : 433 Question Id : 48558436183 Question Type : MCQ Option Shuffling : No Is Question Mandatory : No Calculator : None Response Time : N.A Think Time : N.A Minimum Instruction Time : 0

Correct Marks : 5 Wrong Marks : 1

**Question Key Details :**

Key	Value
Comprehension	MCQ2

Match List I with List II

LIST I	LIST II
A. Varnikabhanga	I. Aesthetic composition
B. Roopbheda	II. Looks and appearance
C. Sadrishya	III. Resemblance
D. Lavaaya Yojana	IV. Use of brush and colours

Choose the correct answer from the options given below:

1. A-I, B-III, C-II, D-IV
2. A-III, B-II, C-I, D-IV
3. A-IV, B-II, C-III, D-I
4. A-II, B-IV, C-III, D-I

**Options :**

485584144729. 1

485584144730. 2  
485584144731. 3  
485584144732. 4

Question Number : 433 Question Id : 48558436183 Question Type : MCQ Option Shuffling : No Is Question Mandatory : No Calculator : None  
Response Time : N.A Think Time : N.A Minimum Instruction Time : 0

Correct Marks : 5 Wrong Marks : 1

Question Key Details :

Key	Value
Comprehension	MCQ2

सूची I का सूची II के साथ मिलान कीजिए:

सूची I	सूची II
A. वर्णिकाभंग	I. सीदरपत्रक संयोजन
B. रूप भेद	II. नयन नक्श और रूप रंग
C. सादृश्य	III. सादृश्य समानता
D. लावण्य योजना	IV. ब्रश और रंगों का उपयोग

नीचे दिए गए विकल्पों में से सही उत्तर चुनिए:

1. A-I, B-III, C-II, D-IV
2. A-III, B-II, C-I, D-IV
3. A-IV, B-II, C-III, D-I
4. A-II, B-IV, C-III, D-I

Options :

485584144729. 1  
485584144730. 2  
485584144731. 3  
485584144732. 4

Question Number : 433 Question Id : 48558436183 Question Type : MCQ Option Shuffling : No Is Question Mandatory : No Calculator : None  
Response Time : N.A Think Time : N.A Minimum Instruction Time : 0

Correct Marks : 5 Wrong Marks : 1

Question Key Details :

Key	Value
Comprehension	MCQ2

ভালিকা I আৰু ভালিকা II মিলোৱা

ভালিকা I	ভালিকা II
A. বান্ধিকাতাংগা	I. এচথেটিক পঠন
B. ৰূপবেদ	II. লুকচ এন্ড এপিগ্ৰাৰেনচ
C. সমৃশ্যা	III. সমৃশ্যা
D. শাবনা যোজনা	IV. ক্লাছ আৰু ৰঙ ৰ ব্যৱহাৰ

1. A-I, B-III, C-II, D-IV
2. A-III, B-II, C-I, D-IV
3. A-IV, B-II, C-III, D-I
4. A-II, B-IV, C-III, D-I

Options :

485584144729. 1  
485584144730. 2

485584144731. 3  
485584144732. 4

Question Number : 433 Question Id : 48558436183 Question Type : MCQ Option Shuffling : No Is Question Mandatory : No Calculator : None  
Response Time : N.A Think Time : N.A Minimum Instruction Time : 0  
Correct Marks : 5 Wrong Marks : 1

Question Key Details :

Key	Value
Comprehension	MCQ2

મ્યાંચિં કર

તારિકા ૧	તારિકા ૨
A. વર્નિકાભાષા	I. નાનનિક રૂઠના
B. રૂપ વેદ	II. દેશા એવં ઉપશ્ચીત
C. સાદુશા	III. ચરણ
D. નાવના યોજના	IV. કુલિત રાષ્ટ્ર વ્યવહાર

સઠિક ઉત્તરઠિ વેહ્લે નાઠ:

1. A-I, B-III, C-II, D-IV
2. A-III, B-II, C-I, D-IV
3. A-IV, B-II, C-III, D-I
4. A-II, B-IV, C-III, D-I

Options :

485584144729. 1  
485584144730. 2  
485584144731. 3  
485584144732. 4

Question Number : 433 Question Id : 48558436183 Question Type : MCQ Option Shuffling : No Is Question Mandatory : No Calculator : None  
Response Time : N.A Think Time : N.A Minimum Instruction Time : 0  
Correct Marks : 5 Wrong Marks : 1

Question Key Details :

Key	Value
Comprehension	MCQ2

સુચિ I ને સુચિ II સાથે જોડો.

સુચિ I	સુચિ II
A. વર્ણિકાભાષા	I. આશીનીય સંરચના
B. રૂપવેદ	II. દેશાવ અને બાહ્યરૂપ
C. સદૃશ્ય	III. સામ્યતા
D. શાવણ્ય યોજના	IV. બ્રશ અને રચના ઉપયોગ

નીચે આપેલા વિકલ્પોમાંથી સાચો જવાબ પસંદ કરો.

1. A-I, B-III, C-II, D-IV
2. A-III, B-II, C-I, D-IV
3. A-IV, B-II, C-III, D-I
4. A-II, B-IV, C-III, D-I

Options :

485584144729. 1  
485584144730. 2  
485584144731. 3

Question Number : 433 Question Id : 48558436183 Question Type : MCQ Option Shuffling : No Is Question Mandatory : No Calculator : None  
Response Time : N.A Think Time : N.A Minimum Instruction Time : 0  
Correct Marks : 5 Wrong Marks : 1

Question Key Details :

Key	Value
Comprehension	MCQ2

ಪಟ್ಟಿ - I ಅನ್ನು ಪಟ್ಟಿ - II ರ ಜೊತೆ ಹೊಂದಿಸಿ:

ಪಟ್ಟಿ - I	ಪಟ್ಟಿ - II
A. ವರ್ಣಕ ಭಂಗ	I. ಲಲಿತಕಲಾ ವಿಜ್ಞಾನದ ಅಂಶ
B. ರೂಪಾ ಭೇದ	II. ನೋಟಗಳು ಮತ್ತು ಕಾಣುವಿಕೆ
C. ಸಾದೃಶ್ಯ	III. ಹೋಲಿಕೆ
D. ಲಾವಣ್ಯ ಯೋಜನೆ	IV. ಬಣ್ಣ ಮತ್ತು ಬಣ್ಣಗಳನ್ನು ಬಳಸುವುದು

ಕೆಳಗೆ ನೀಡಿರುವ ಆಯ್ಕೆಗಳಿಂದ ಸರಿಯಾದ ಉತ್ತರವನ್ನು ಆರಿಸಿ:

1. A-I, B-III, C-II, D-IV
2. A-III, B-II, C-I, D-IV
3. A-IV, B-II, C-III, D-I
4. A-II, B-IV, C-III, D-I

Options :

485584144729. 1  
485584144730. 2  
485584144731. 3  
485584144732. 4

Question Number : 433 Question Id : 48558436183 Question Type : MCQ Option Shuffling : No Is Question Mandatory : No Calculator : None  
Response Time : N.A Think Time : N.A Minimum Instruction Time : 0  
Correct Marks : 5 Wrong Marks : 1

Question Key Details :

Key	Value
Comprehension	MCQ2

ಪತ್ರಿಕೆ I ನ ಪತ್ರಿಕೆ II ಯಾಗಿ ಬೇರೂಂಪತಿ ಬೇರೇಣ್ಣುಕ

ಪತ್ರಿಕೆ I	ಪತ್ರಿಕೆ II
A. ವರದಿಗಾರಿಕಾಂಶ	I. ಸ್ವಾಸ್ಥ್ಯಾಂಶಕ ಅಲಸನ
B. ರೂಪವಿವರಣೆ	II. ಕೌಶಲ್ಯಂ, ರೂಪವಿವರಣೆ
C. ಸ್ವಾಸ್ಥ್ಯ	III. ಸ್ವಾಸ್ಥ್ಯ
D. ಲಾವಣ್ಯ ಯೋಜನೆ	IV. (ಬ್ರಹ್ಮಂ, ನಿರೀಕ್ಷಣಂ) ಲವಣ್ಯಾಂಗಿಕಣ್ಣುಕ

ಕಾರಣ ನಡವಳಿಯಿತ್ತಿರುವವಿವರ ನಿಗದಿ ಸರಿವಿರುವ ಉತ್ತರಂ ತಿರಣ್ಣುಕು.

1. A-I, B-III, C-II, D-IV
2. A-III, B-II, C-I, D-IV
3. A-IV, B-II, C-III, D-I
4. A-II, B-IV, C-III, D-I

Options :

485584144729. 1  
485584144730. 2  
485584144731. 3  
485584144732. 4

Question Number : 433 Question Id : 48558436183 Question Type : MCQ Option Shuffling : No Is Question Mandatory : No Calculator : None Response Time : N.A Think Time : N.A Minimum Instruction Time : 0

Correct Marks : 5 Wrong Marks : 1

Question Key Details :

Key	Value
Comprehension	MCQ2

यादी I ची यादी II शी जोडी लावा

यादी I	यादी II
A. वर्णिका भंग	I. सीदर्य रचना
B. रूप बेडा	II. दिसणे आणि स्वरूप
C. सदृश्य	III. साम्य
D. कावण्य योजना	IV. ब्रश आणि रंगाचा वापर

खालील पर्यायातून अचूक उत्तर शोधा

1. A-I, B-III, C-II, D-IV
2. A-III, B-II, C-I, D-IV
3. A-IV, B-II, C-III, D-I
4. A-II, B-IV, C-III, D-I

Options :

485584144729. 1  
485584144730. 2  
485584144731. 3  
485584144732. 4

Question Number : 433 Question Id : 48558436183 Question Type : MCQ Option Shuffling : No Is Question Mandatory : No Calculator : None Response Time : N.A Think Time : N.A Minimum Instruction Time : 0

Correct Marks : 5 Wrong Marks : 1

Question Key Details :

Key	Value
Comprehension	MCQ2

ଭାବିକା I ସହିତ ଭାବିକା II ମେଳ କରାନ୍ତୁ।

ଭାବିକା I	ଭାବିକା II
A. ବାବୁରୀକାଳ	I. Aesthetic composition
B. ରୂପ ବେଡ଼ା	II. Looks and appearance
C. ସଦୃଶ୍ୟ	III. Resemblance
D. ବାବୁରୀ ଯୋଜନା	IV. Use of brush and colours

ଦିଆଯାଇଥିବା ବିକଳ୍ପରୁ ଠିକ୍ ଉତ୍ତରଟି ଚାହାନ୍ତୁ:

1. A-I, B-III, C-II, D-IV
2. A-III, B-II, C-I, D-IV
3. A-IV, B-II, C-III, D-I
4. A-II, B-IV, C-III, D-I

Options :

485584144729. 1  
485584144730. 2  
485584144731. 3  
485584144732. 4



Question Number : 433 Question Id : 48558436183 Question Type : MCQ Option Shuffling : No Is Question Mandatory : No Calculator : None Response Time : N.A Think Time : N.A Minimum Instruction Time : 0

Correct Marks : 5 Wrong Marks : 1

Question Key Details :

Key	Value
Comprehension	MCQ2

ਸੁਚੀ I ਦਾ ਸੁਚੀ II ਨਾਲ ਮਿਲਾਣ ਕਰੋ

ਸੁਚੀ I	ਸੁਚੀ II
A. ਦਿਰਨੀਕਭੰਗਾ	I. ਸਰਜ ਰਚਨਾ
B. ਰੂਪ ਰੇਖਾ	II. ਰੂਪ ਰੇਖਾ
C. ਸਦਰੀਸ਼ਾਜ	III. ਮਿਲਖਾਣਾ
D. ਲਾਟੀਆ ਯੋਜਨਾ	IV. ਰੰਗ ਅਤੇ ਬਰਸ਼ ਦੀ ਵਰਤੋਂ

ਹੇਠਾਂ ਦਿੱਤੇ ਵਿਕਲਪਾਂ ਵਿੱਚੋਂ ਸਹੀ ਪ੍ਰੰਤਰ ਚੁਣੋ.

1. A-I, B-III, C-II, D-IV
2. A-III, B-II, C-I, D-IV
3. A-IV, B-II, C-III, D-I
4. A-II, B-IV, C-III, D-I

Options :

485584144729. 1
485584144730. 2
485584144731. 3
485584144732. 4

Question Number : 433 Question Id : 48558436183 Question Type : MCQ Option Shuffling : No Is Question Mandatory : No Calculator : None Response Time : N.A Think Time : N.A Minimum Instruction Time : 0

Correct Marks : 5 Wrong Marks : 1

Question Key Details :

Key	Value
Comprehension	MCQ2

ਪட்டਿਯਲ I ਈ ਪੱਟਿਯਲ II ਲੁ.ਲਨੁ ਪੁਪਾਨੁਕੁਕੁ

ਪੱਟਿਯਲ I	ਪੱਟਿਯਲ II
A. ਵਰੁਨੀਕਾ ਪਠਕਾ	I. ਕਲਯਠਯਠੀਕੁਕੁ ਕੁਕੁਕੁਪੁ
B. ਰੁਪ ਪੁਕੁਕੁ	II. ਪਾਰੁਕੁਕੁਕੁ ਮਠੁਕੁਕੁ ਕੁਕੁਕੁਕੁ
C. ਕਾਕੁਰੀਠੁਯਾ	III. ਕੁਕੁਕੁ ਕਾਯਲ
D. ਕਾਕੁਕੁਕੁਕੁ ਕਾਯਲੁਕੁਕੁ	IV. ਕੁਕੁਕੁਕੁਕੁ ਮਠੁਕੁਕੁਕੁ ਨੀਰੁਕੁਕੁਕੁਕੁ ਪਠੁਕੁਕੁਕੁ

ਕੁਕੁਕੁ ਕੁਕੁਕੁਕੁਕੁਕੁ ਕਾਯਲੁਕੁਕੁਕੁਕੁਕੁ ਕੁਕੁਕੁਕੁ ਕੁਕੁਕੁਕੁਕੁਕੁ ਕੁਕੁਕੁਕੁਕੁ ਕੁਕੁਕੁਕੁਕੁਕੁਕੁਕੁ:

1. A-I, B-III, C-II, D-IV
2. A-III, B-II, C-I, D-IV
3. A-IV, B-II, C-III, D-I
4. A-II, B-IV, C-III, D-I

Options :

485584144729. 1
485584144730. 2
485584144731. 3
485584144732. 4

Question Number : 433 Question Id : 48558436183 Question Type : MCQ Option Shuffling : No Is Question Mandatory : No Calculator : None  
Response Time : N.A Think Time : N.A Minimum Instruction Time : 0

Correct Marks : 5 Wrong Marks : 1

Question Key Details :

Key	Value
Comprehension	MCQ2

జాబితా I ని జాబితా II తో జతచేయండి

జాబితా I	జాబితా II
A. వర్షిక భంగ	I. అందమైన కూర్పు
B. రూప భేద	II. అకారము మరియు రూపము
C. సర్దుకట్ట	III. పోలిక గా ఉండు
D. లావణ్య యోజన	IV. బ్రష్ మరియు రంగుల వాడకం

క్రింది వాటిలో సరైన సమాధానం ఎంచుకోండి

1. A-I, B-III, C-II, D-IV
2. A-III, B-II, C-I, D-IV
3. A-IV, B-II, C-III, D-I
4. A-II, B-IV, C-III, D-I

Options :

485584144729. 1

485584144730. 2

485584144731. 3

485584144732. 4

Question Number : 433 Question Id : 48558436183 Question Type : MCQ Option Shuffling : No Is Question Mandatory : No Calculator : None  
Response Time : N.A Think Time : N.A Minimum Instruction Time : 0

Correct Marks : 5 Wrong Marks : 1

Question Key Details :

Key	Value
Comprehension	MCQ2

فہرست I کو فہرست II سے مائلیں

فہرست II	فہرست I
I. جمالیاتی ساخت	A. ورینڈکا بھنگا
II. طاہری شکل	B. روبا بھند
III. مشابہت	C. سادوشیا
IV. برش اور رنگوں کا استعمال	D. لارنیا پرجنا

نیچے سے درست جواب کا انتخاب کریں :

1. A-I, B-III, C-II, D-IV
2. A-III, B-II, C-I, D-IV
3. A-IV, B-II, C-III, D-I
4. A-II, B-IV, C-III, D-I

**Options :**

485584144729. 1
485584144730. 2
485584144731. 3
485584144732. 4

Question Number : 434 Question Id : 48558436184 Question Type : MCQ Option Shuffling : No Is Question Mandatory : No Calculator : None Response Time : N.A Think Time : N.A Minimum Instruction Time : 0

Correct Marks : 5 Wrong Marks : 1

Question Key Details :

Key	Value
Comprehension	MCQ2

Match List I with List II

LIST I		LIST II	
A.	Bundi	I.	Bikaner
B.	Krishna on Swing	II.	Mewar
C.	Raja Aniruddha Singh Hara	III.	Sub-School
D.	Sahubdin	IV.	Utkal Ram

Choose the correct answer from the options given below:

1. A-III, B-I, C-IV, D-II
2. A-I, B-II, C-III, D-IV
3. A-II, B-I, C-III, D-IV
4. A-III, B-II, C-I, D-IV

**Options :**

485584144733. 1
485584144734. 2
485584144735. 3
485584144736. 4

Question Number : 434 Question Id : 48558436184 Question Type : MCQ Option Shuffling : No Is Question Mandatory : No Calculator : None Response Time : N.A Think Time : N.A Minimum Instruction Time : 0

Correct Marks : 5 Wrong Marks : 1

Question Key Details :

Key	Value
Comprehension	MCQ2

सूची I का सूची II के साथ मिलान कीजिए:

सूची I	सूची II
A. बूढ़ी	I. बिकानेर
B. झूल पर कृष्ण	II. मेवाड़
C. राजा अनिरुद्ध सिंह द्वारा	III. उप-शैली
D. साहिबदौल	IV. उलूक राम

नीचे दिए गए विकल्पों में से सही उत्तर चुनिए:

1. A-III, B-I, C-IV, D-II
2. A-I, B-II, C-III, D-IV
3. A-II, B-I, C-III, D-IV
4. A-III, B-II, C-I, D-IV

Options :

485584144733. 1  
485584144734. 2  
485584144735. 3  
485584144736. 4

Question Number : 434 Question Id : 48558436184 Question Type : MCQ Option Shuffling : No Is Question Mandatory : No Calculator : None Response Time : N.A Think Time : N.A Minimum Instruction Time : 0

Correct Marks : 5 Wrong Marks : 1

Question Key Details :

Key	Value
Comprehension	MCQ2

जानिका I	जानिका II
A. बुद्धि	I. बिकानेर
B. झूलत कृष्ण	II. मेवाड़
C. बतज्जा अनिरुद्ध सिंह द्वारा	III. उप-विद्यालय
D. साहिबदौल	IV. उलूक राम

1. A-III, B-I, C-IV, D-II
2. A-I, B-II, C-III, D-IV
3. A-II, B-I, C-III, D-IV
4. A-III, B-II, C-I, D-IV

Options :

485584144733. 1  
485584144734. 2  
485584144735. 3  
485584144736. 4

Question Number : 434 Question Id : 48558436184 Question Type : MCQ Option Shuffling : No Is Question Mandatory : No Calculator : None Response Time : N.A Think Time : N.A Minimum Instruction Time : 0

Correct Marks : 5 Wrong Marks : 1

Question Key Details :

Key	Value
Comprehension	MCQ2

મિનિયે નાં

તારિકા ૧	તારિકા ૨
A. વુન્દિ	I. વિકાનૌર
B. દોલાય કુશ	II. યેઠયાર
C. રાજા અનિરુદ્ધ સિંઘ ઠારા	III. ઉપ ઘરના
D. સેયિવદ્દીન	IV. ઉત્કલ રામ

સઠિક ઉત્તરઠિ વેઢે નાં:

1. A-III, B-I, C-IV, D-II
2. A-I, B-II, C-III, D-IV
3. A-II, B-I, C-III, D-IV
4. A-III, B-II, C-I, D-IV

Options :

485584144733. 1
485584144734. 2
485584144735. 3
485584144736. 4

Question Number : 434 Question Id : 48558436184 Question Type : MCQ Option Shuffling : No Is Question Mandatory : No Calculator : None Response Time : N.A Think Time : N.A Minimum Instruction Time : 0

Correct Marks : 5 Wrong Marks : 1

Question Key Details :

Key	Value
Comprehension	MCQ2

સુચિ I ને સુચિ II સાથે જોડો.

સુચિ I	સુચિ II
A. બુદ્ધી	I. બિઠાનેર
B. ઠુવા પર ક્રિષ્ના	II. મિવાડ
C. ઠાજા અનિરુપ્પય સિંઠ કરા	III. સભ-સુવ
D. સાહિત્વદ્દીન	IV. ઉત્કલ રામ

નીચે આપેલા વિકલ્પોમાંથી સાચો જવાબ પસંદ કરો.

1. A-III, B-I, C-IV, D-II
2. A-I, B-II, C-III, D-IV
3. A-II, B-I, C-III, D-IV
4. A-III, B-II, C-I, D-IV

Options :

485584144733. 1
485584144734. 2
485584144735. 3
485584144736. 4

Question Number : 434 Question Id : 48558436184 Question Type : MCQ Option Shuffling : No Is Question Mandatory : No Calculator : None Response Time : N.A Think Time : N.A Minimum Instruction Time : 0

Correct Marks : 5 Wrong Marks : 1

**Question Key Details :**

Key	Value
Comprehension	MCQ2

പട്ടിക - I അനു പട്ടിക - II ൽ ജോതം കേൾക്കുക:

പട്ടിക - I		പട്ടിക - II	
A. ഭൂമി		I. വിജ്ഞാപനം	
B. സാമ്പത്തികവ്യവസ്ഥകൾ		II. സർക്കാർ	
C. രാഷ്ട്ര അസുഖം സിംഗ് ഹാൻഡ്		III. സർവ്വകലാശാല	
D. സാങ്കേതികത		IV. സർവ്വകലാശാല	

കೆഴുവ് നീക്കം ചെയ്ത അയ്യംകളിൽ ശരിയായ ഉത്തരവ് അറിയിക്കുക:

1. A-III, B-I, C-IV, D-II
2. A-I, B-II, C-III, D-IV
3. A-II, B-I, C-III, D-IV
4. A-III, B-II, C-I, D-IV

**Options :**

485584144733. 1  
 485584144734. 2  
 485584144735. 3  
 485584144736. 4

Question Number : 434 Question Id : 48558436184 Question Type : MCQ Option Shuffling : No Is Question Mandatory : No Calculator : None Response Time : N.A Think Time : N.A Minimum Instruction Time : 0

Correct Marks : 5 Wrong Marks : 1

**Question Key Details :**

Key	Value
Comprehension	MCQ2

പട്ടിക I നെ പട്ടിക II ൽ മായി ചേർക്കുന്നതിന് ശ്രമിക്കുക:

പട്ടിക I		പട്ടിക II	
A. ബുദ്ധി		I. വിജ്ഞാപനം	
B. കൃഷിയിൽ ഉപയോഗിക്കുന്ന		II. മിസാർ	
C. രാജ്യത്തിന്റെ സമ്പദ്കോശം		III. ഉപ സമ്പ്രദായം	
D. സാങ്കേതികത		IV. ഉൽകർഷകർ	

താഴെ നൽകിയിട്ടുള്ളവയിൽ നിന്ന് ശരിയായ ഉത്തരം തിരഞ്ഞെടുക്കുക:

1. A-III, B-I, C-IV, D-II
2. A-I, B-II, C-III, D-IV
3. A-II, B-I, C-III, D-IV
4. A-III, B-II, C-I, D-IV

**Options :**

485584144733. 1  
 485584144734. 2  
 485584144735. 3  
 485584144736. 4

Question Number : 434 Question Id : 48558436184 Question Type : MCQ Option Shuffling : No Is Question Mandatory : No Calculator : None Response Time : N.A Think Time : N.A Minimum Instruction Time : 0

Correct Marks : 5 Wrong Marks : 1

**Question Key Details :**

Key	Value
Comprehension	MCQ2

यादी I ची यादी II शी जोडी लावा

यादी I	यादी II
A. बुंदी	I. विकानेर
B. झापाळ्यावरील कुष्म	II. मेवाड
C. राजा अनिरुध्द सिंह द्वारा	III. उप-शाळा
D. साहिबदिन	IV. उक्त राम

खालील पर्यायातून अचूक उत्तर शोधा.

1. A-III, B-I, C-IV, D-II
2. A-I, B-II, C-III, D-IV
3. A-II, B-I, C-III, D-IV
4. A-III, B-II, C-I, D-IV

Options :

485584144733. 1  
485584144734. 2  
485584144735. 3  
485584144736. 4

Question Number : 434 Question Id : 48558436184 Question Type : MCQ Option Shuffling : No Is Question Mandatory : No Calculator : None  
Response Time : N.A Think Time : N.A Minimum Instruction Time : 0  
Correct Marks : 5 Wrong Marks : 1

Question Key Details :

Key	Value
Comprehension	MCQ2

ଭାଗିକା I ସହିତ ଭାଗିକା II ଯୋଡ଼ କରନ୍ତୁ।

ଭାଗିକା I	ଭାଗିକା II
A. ବୁଢ଼ି	I. ବିକାନେର
B. ଝୁଲାଇ ବୁଝ	II. ମେବାଡ଼
C. ରଜା ଅନିରୁଦ୍ଧ ଦେବ ଦ୍ଵାରା	III. ଉପ-ସ୍କୁଲ
D. ସାହିବଦିନ	IV. ଉକ୍ତ ରାମ

ଦିଆଯାଇଥିବା ବିକଳ୍ପରୁ ଠିକ୍ ଉତ୍ତରଟି ଚାନ୍ତୁ :

1. A-III, B-I, C-IV, D-II
2. A-I, B-II, C-III, D-IV
3. A-II, B-I, C-III, D-IV
4. A-III, B-II, C-I, D-IV

Options :

485584144733. 1  
485584144734. 2  
485584144735. 3  
485584144736. 4

Question Number : 434 Question Id : 48558436184 Question Type : MCQ Option Shuffling : No Is Question Mandatory : No Calculator : None  
Response Time : N.A Think Time : N.A Minimum Instruction Time : 0  
Correct Marks : 5 Wrong Marks : 1





జాబితా I ని జాబితా II తో జతచేయము

జాబితా I	జాబితా II
A. బుండి	I. బికనెర్
B. ఊయలలో కృష్ణుడు	II. మేవార్
C. రజా అనిరుద్ద సంగ్ పాఠ	III. ఉపి పాఠశాల
D. సాహెబ్	IV. ఉత్కలీరాం

క్రింది వాటిలో సరైన సమాధానం ఎంచుకోండి

1. A-III, B-I, C-IV, D-II
2. A-I, B-II, C-III, D-IV
3. A-II, B-I, C-III, D-IV
4. A-III, B-II, C-I, D-IV

Options :

485584144733. 1  
485584144734. 2  
485584144735. 3  
485584144736. 4

Question Number : 434 Question Id : 48558436184 Question Type : MCQ Option Shuffling : No Is Question Mandatory : No Calculator : None  
Response Time : N.A Think Time : N.A Minimum Instruction Time : 0

Correct Marks : 5 Wrong Marks : 1

Question Key Details :

Key	Value
Comprehension	MCQ2

II ఫిరమత్	I ఫిరమత్
I. బిక్నెర్	A. బిందీ
II. మేవార్	B. జులై నరకానా
III. ఉపి పాఠశాల	C. రాజా అనిరుద్ద సంగ్ పాఠ
IV. ఉత్కలీరాం	D. మజాబ్ బిన్

అచ్చే సే ఫిరమత్ జుబాబ్ కా అత్కాబ్ కరీన్

1. A-III, B-I, C-IV, D-II
2. A-I, B-II, C-III, D-IV
3. A-II, B-I, C-III, D-IV
4. A-III, B-II, C-I, D-IV

Options :

485584144733. 1  
485584144734. 2

485584144735. 3

485584144736. 4

Question Number : 435 Question Id : 48558436185 Question Type : MCQ Option Shuffling : No Is Question Mandatory : No Calculator : None

Response Time : N.A Think Time : N.A Minimum Instruction Time : 0

Correct Marks : 5 Wrong Marks : 1

Question Key Details :

Key	Value
Comprehension	MCQ2

Match List I with List II

LIST I Sub-Schools		LIST II Main features	
A.	Kangra	I.	Strong use of primary colours and warm yellows
B.	Basohli	II.	Lush vegetation, landscape with flora, birds and wildlife
C.	Mewar	III.	Most poetic and lyrical paintings with serene beauty
D.	Bundi	IV.	Pictorial aesthetics got reformed under virtuous artists

Choose the correct answer from the options given below:

1. A-III, B-II, C-I, D-IV
2. A-III, B-I, C-IV, D-II
3. A-IV, B-I, C-II, D-III
4. A-I, B-III, C-II, D-IV

Options :

485584144737. 1

485584144738. 2

485584144739. 3

485584144740. 4

Question Number : 435 Question Id : 48558436185 Question Type : MCQ Option Shuffling : No Is Question Mandatory : No Calculator : None

Response Time : N.A Think Time : N.A Minimum Instruction Time : 0

Correct Marks : 5 Wrong Marks : 1

Question Key Details :

Key	Value
Comprehension	MCQ2

सूची I का सूची II के साथ मिलान कीजिए:

सूची I उप-विचारधाराएं	सूची II मुख्य विशेषताएं (बनावट)
A. कांगड़ा	I. प्रथम रंगों और पीले रंगों का अत्याधिक उपयोग
B. बसोली	II. सघन वनस्पति, पठ पौधा सहित मुख्य और वन्य जीवन
C. मेवाड़	III. अत्याधिक काव्यात्मक और संगीतमय चित्रकारी शांतभाव सुन्दरता (सौंदर्य) के साथ
D. बूंदी	IV. सौंदर्यविषयक चित्रों को गुणवान कलाकारों के सानिध्य (देख-रेख) में सुधारा गया

नीचे दिए गए विकल्पों में से सही उत्तर चुनिए:

1. A-III, B-II, C-I, D-IV
2. A-III, B-I, C-IV, D-II
3. A-IV, B-I, C-II, D-III
4. A-I, B-III, C-II, D-IV

**Options :**

485584144737. 1  
485584144738. 2  
485584144739. 3  
485584144740. 4

**Question Number : 435 Question Id : 48558436185 Question Type : MCQ Option Shuffling : No Is Question Mandatory : No Calculator : None Response Time : N.A Think Time : N.A Minimum Instruction Time : 0**

**Correct Marks : 5 Wrong Marks : 1**

**Question Key Details :**

Key	Value
Comprehension	MCQ2

ভালিকা I Sub-Schools	ভালিকা II Main features
A. কংগ্ৰা	I. মূল বঙ আৰু গাট হালকাৰ ব্যৱহাৰ
B. বাসলী	II. লাহু ভেজিটেশ্বন, লেখককেপ আৰু ফুৰা, চৰাই আৰু বন্যজগত
C. মেঘাৰ	III. অতি কবি আৰু বিশ্বমূলক চিত্ৰ লগত সৌন্দৰ্য
D. বুদ্ধি	IV. পৰ্গত শিল্পীৰ দ্বাৰা অংকিত এচম্বেটিক চিত্ৰশিল্প

1. A-III, B-II, C-I, D-IV  
2. A-III, B-I, C-IV, D-II  
3. A-IV, B-I, C-II, D-III  
4. A-I, B-III, C-II, D-IV

**Options :**

485584144737. 1  
485584144738. 2  
485584144739. 3  
485584144740. 4

**Question Number : 435 Question Id : 48558436185 Question Type : MCQ Option Shuffling : No Is Question Mandatory : No Calculator : None Response Time : N.A Think Time : N.A Minimum Instruction Time : 0**

**Correct Marks : 5 Wrong Marks : 1**

**Question Key Details :**

Key	Value
Comprehension	MCQ2

মিলিয়ে নাও-

ভালিকা ১ উপ ঘৰানা	ভালিকা ২ প্ৰধান বৈশিষ্ট্য
A. বনগুৰা	I. প্ৰাথমিক ভাবে চড়া হালুদ ৰঙেৰ ব্যৱহাৰ
B. বাসলী	II. ভেজিটেশ্বন এবং ল্যাক্সকেপ ফুল ও ওয়াইল্ড লাইফ দিয়ে নকশা
C. মেঘাৰ	III. কাব্যিক এবং লিৰিকাল পেণ্টিং প্ৰাকৃতিক সৌন্দৰ্যেৰ সাধে
D. বুদ্ধি	IV. প্ৰতীকায়িত্ত নান্দনিক ছবি বিভিন্ন শিল্পীৰ দ্বাৰা

সঠিক উত্তৰটি বেছে নাও:

1. A-III, B-II, C-I, D-IV  
2. A-III, B-I, C-IV, D-II  
3. A-IV, B-I, C-II, D-III  
4. A-I, B-III, C-II, D-IV

**Options :**

485584144737. 1

485584144738. 2

485584144739. 3

485584144740. 4

Question Number : 435 Question Id : 48558436185 Question Type : MCQ Option Shuffling : No Is Question Mandatory : No Calculator : None  
Response Time : N.A Think Time : N.A Minimum Instruction Time : 0  
Correct Marks : 5 Wrong Marks : 1

Question Key Details :

Key	Value
Comprehension	MCQ2

સૂચિ I ને સૂચિ II સાથે જોડો.

સૂચિ I સભ્ય-સ્કૂલ	સૂચિ II મુખ્ય લાક્ષણિકતાઓ
A. કાંચરા	I. પ્રાથમિક રેઝી અને ઘાટી પિળા રેઝીની ઉપયોગ
B. બસોહવા	II. ધોલોછમ વનસ્પતિ, વનસ્પતિ, પક્ષીઓ અને વન્ય જીવન સાથેનું લેન્ડસ્કેપ
C. મેવાડ	III. મનોહર સૌંદર્ય સાથેનું સૌથી કાવ્યાત્મક અને પ્રીતાત્મક ચિત્ર
D. બ્રહ્મી	IV. સદાચારી કળામરની નજર હેઠળ સચિત્ર અને દર્શનીય બનાવ્યું

નીચે આપેલા વિકલ્પોમાંથી સાચો જવાબ પસંદ કરો.

1. A-III, B-II, C-I, D-IV

2. A-III, B-I, C-IV, D-II

3. A-IV, B-I, C-II, D-III

4. A-I, B-III, C-II, D-IV

Options :

485584144737. 1

485584144738. 2

485584144739. 3

485584144740. 4

Question Number : 435 Question Id : 48558436185 Question Type : MCQ Option Shuffling : No Is Question Mandatory : No Calculator : None  
Response Time : N.A Think Time : N.A Minimum Instruction Time : 0  
Correct Marks : 5 Wrong Marks : 1

Question Key Details :

Key	Value
Comprehension	MCQ2

ಪಟ್ಟಿ - I ಅನ್ನು ಪಟ್ಟಿ - II ರ ಜೊತೆ ಹೊಂದಿಸಿ:

ಪಟ್ಟಿ - I ಉಪ-ಶಾಲೆಗಳು		ಪಟ್ಟಿ - II ಮುಖ್ಯ ಲಕ್ಷಣಗಳು	
A.	ಕಾಂಗ್ರೆಸ್	I.	ಪ್ರಾಥಮಿಕ ಬಣ್ಣಗಳು ಮತ್ತು ಕಡುಹಳದಿಯನ್ನು ಬಲವಾಗಿ ಬಳಸುವುದು
B.	ಬಾಸೋಲಿ	II.	ಗಾಢ ಸಸ್ಯವರಣ, ಸಸ್ಯಗಳು, ಪಕ್ಷಿಗಳು ಮತ್ತು ವನ್ಯಜೀವಿಗಳಿರುವ ಭೂದೃಶ್ಯ
C.	ಮೇವಾರ್	III.	ಸ್ವಿಗ್ನ ಸೌಂದರ್ಯದ ಜೊತೆ ಅತಿ ಕಾವ್ಯಾತ್ಮಕ ಮತ್ತು ಸಾಹಿತ್ಯಾತ್ಮಕ ಚಿತ್ರಕಲೆ
D.	ಬುಂಡಿ	IV.	ಪ್ರದರ್ಶನ ಕಲಾವಿದರ ಅಡಿಯಲ್ಲಿ ಚಿತ್ರಾತ್ಮಕ ಸೌಂದರ್ಯತೆಯು ಪುನಃ ರಚಿತವಾಗಿದ್ದು,

ಕೆಳಗೆ ನೀಡಿರುವ ಆಯ್ಕೆಗಳಿಂದ ಸರಿಯಾದ ಉತ್ತರವನ್ನು ಆರಿಸಿ:

1. A-III, B-II, C-I, D-IV
2. A-III, B-I, C-IV, D-II
3. A-IV, B-I, C-II, D-III
4. A-I, B-III, C-II, D-IV

Options :

485584144737. 1  
485584144738. 2  
485584144739. 3  
485584144740. 4

Question Number : 435 Question Id : 48558436185 Question Type : MCQ Option Shuffling : No Is Question Mandatory : No Calculator : None  
Response Time : N.A Think Time : N.A Minimum Instruction Time : 0  
Correct Marks : 5 Wrong Marks : 1  
Question Key Details :

Key	Value
Comprehension	MCQ2

ಪತ್ರಿಕೆ I ನ ಪತ್ರಿಕೆ II ಯಾಗಿ ಚೇರೂಂಪತಿ ಚೇರೇಕ್ಕುಕ

ಪತ್ರಿಕೆ I ಉಪನುಗ್ರಹಾಯಂ		ಪತ್ರಿಕೆ II ಪ್ರಯಾಗ ಪ್ರತ್ಯೇಕತೆಗಳು	
A.	ಕಾಂಗ್ರೆಸ್	I.	ಪ್ರಾಮಾಣಿಕ ನಿರೀಕ್ಷೆ, ಉನ್ನತ ಮಟ್ಟದ ನಿರೀಕ್ಷೆ ಮತ್ತು ಧಾರ್ಮಿಕವಾಗಿ ಉಪಯುಕ್ತವಾಗಿರುತ್ತದೆ
B.	ಬಾಸೋಲಿ	II.	ಸುಸ್ಥಿರವಾದವು, ಪಕ್ಕಿಗಳನ್ನು, ವನ್ಯ ಪ್ರಾಣಿಗಳನ್ನು ಮತ್ತು ಸಮೃದ್ಧವಾಗಿರುವ ಪ್ರದೇಶಗಳನ್ನು
C.	ಮೇವಾರ್	III.	ಪ್ರಕೃತಿ ರಂಗಿಯಲ್ಲಿ ಕಾವ್ಯಾತ್ಮಕವಾಗಿರುವುದು
D.	ಬುಂಡಿ	IV.	ಸುಸ್ಥಿರವಾದವು ಮತ್ತು ಕಲಾವಿದರ ಅಡಿಯಲ್ಲಿ ಚಿತ್ರಾತ್ಮಕ ಸೌಂದರ್ಯತೆಯು ಪುನಃ ರಚಿತವಾಗಿದ್ದು,

ತಾಳ್ಮೆ ಮತ್ತು ಸಮೀಕ್ಷಿಸುವುದು ನಿಗದಿತವಾದ ಉತ್ತರ ತಿರಿಸುತ್ತಿರುತ್ತದೆ:

1. A-III, B-II, C-I, D-IV
2. A-III, B-I, C-IV, D-II
3. A-IV, B-I, C-II, D-III
4. A-I, B-III, C-II, D-IV

Options :

485584144737. 1  
485584144738. 2  
485584144739. 3  
485584144740. 4

Question Number : 435 Question Id : 48558436185 Question Type : MCQ Option Shuffling : No Is Question Mandatory : No Calculator : None  
 Response Time : N.A Think Time : N.A Minimum Instruction Time : 0  
 Correct Marks : 5 Wrong Marks : 1

Question Key Details :

Key	Value
Comprehension	MCQ2

यादी I ची यादी II शी जोडी लावा

यादी I उप-शाळा	LIST II मुख्य वैशिष्ट्य
A. कागडा	I. प्राथमिक रंग आणि उज्वळार पिवळ्या रंगाचा वापर
B. बासोती	II. हिरवीगार झाडेसुद्धा, लॅन्डस्केप वरित्त (साठे) वनस्पती, पक्षी आणि वन्य प्राणी
C. मेवाड	III. शांत सौंदर्यासह काव्यात्मक आणि गीतात्मक चित्रे
D. ह्यूदी	IV. सचित्र सौंदर्यासह हे सदगुणी कलाकारांचे पुनःस्वरूप होणे

खालील पर्यायातून अचूक उत्तर शोधा.

1. A-III, B-II, C-I, D-IV
2. A-III, B-I, C-IV, D-II
3. A-IV, B-I, C-II, D-III
4. A-I, B-III, C-II, D-IV

Options :

485584144737. 1  
 485584144738. 2  
 485584144739. 3  
 485584144740. 4

Question Number : 435 Question Id : 48558436185 Question Type : MCQ Option Shuffling : No Is Question Mandatory : No Calculator : None  
 Response Time : N.A Think Time : N.A Minimum Instruction Time : 0  
 Correct Marks : 5 Wrong Marks : 1

Question Key Details :

Key	Value
Comprehension	MCQ2

ଭେଦ I ସହିତ ଭେଦ II ଗୋଟି ଭାଗକୁ।

ଭେଦ I ସମ-ସ୍ତମ୍ଭ	ଭେଦ II ମୂଳ୍ୟ ବିଶେଷତା
A. ଭିତର	I. Strong use of primary colours and warm yellows
B. ବରଣାଳି	II. Lush vegetation, landscape with flora, birds and wildlife
C. ଶରଣ	III. Most poetic and lyrical paintings with serene beauty
D. ପୁଣି	IV. Pictorial aesthetics got reformatting under virtuous artists

ବିଷୟାତ୍ମକ ବିକଳତା ସଠିକ ଭାବରେ ବାହାରେ:

1. A-III, B-II, C-I, D-IV
2. A-III, B-I, C-IV, D-II
3. A-IV, B-I, C-II, D-III
4. A-I, B-III, C-II, D-IV

Options :

485584144737. 1

485584144738. 2  
485584144739. 3  
485584144740. 4

Question Number : 435 Question Id : 48558436185 Question Type : MCQ Option Shuffling : No Is Question Mandatory : No Calculator : None  
Response Time : N.A Think Time : N.A Minimum Instruction Time : 0  
Correct Marks : 5 Wrong Marks : 1  
Question Key Details :

Key	Value
Comprehension	MCQ2

ਸੂਚੀ I ਦਾ ਸੂਚੀ II ਨਾਲ ਮਿਲਾਏ ਕਰੋ:

ਸੂਚੀ I Sub-Schools	ਸੂਚੀ II Main features
A. ਕੀਰਤਨਾ	I. ਪ੍ਰਾਥਮਿਕ ਰੰਗ ਅਤੇ ਗੋਟ ਪੇਂਟਿੰਗ ਰੰਗ ਦੀ ਵਰਤੋਂ
B. ਬਨੇਲੀ	II. ਹਰੀ-ਭਰੀ ਬਨਸਪਤੀ, ਬਨਸਪਤੀ ਦੇ ਲੋਛਸਕੇਪ ਖੰਡੀ ਅਤੇ ਜੰਗਲੀ ਜੀਵ
C. ਮਿਦਾਤ	III. ਜਲ ਤੋਂ ਵੱਧ ਗਾਇਕ ਅਤੇ ਗੀਤਕਾਰੀ ਮਾਤਸੰਦਰਜਾ ਵਾਲਾ ਚਿੱਤਰ
D. ਸੁੰਦਰੀ	IV. ਸੁਰਜ ਚਿੱਤਰਣ ਦਾ ਨੌਕ ਕਲਾਕਾਰਾਂ ਦੁਆਰਾ ਮੁੜ ਫੋਰਮੈਂਟ ਕੀਤਾ

ਹੇਠਾਂ ਦਿੱਤੇ ਵਿਕਲਪਾਂ ਵਿੱਚੋਂ ਸਹੀ ਉੱਤਰ ਚੁਣੋ:

1. A-III, B-II, C-I, D-IV
2. A-III, B-I, C-IV, D-II
3. A-IV, B-I, C-II, D-III
4. A-I, B-III, C-II, D-IV

Options :

485584144737. 1  
485584144738. 2  
485584144739. 3  
485584144740. 4

Question Number : 435 Question Id : 48558436185 Question Type : MCQ Option Shuffling : No Is Question Mandatory : No Calculator : None  
Response Time : N.A Think Time : N.A Minimum Instruction Time : 0  
Correct Marks : 5 Wrong Marks : 1  
Question Key Details :

Key	Value
Comprehension	MCQ2

பட்டியல் I ஐ பட்டியல் II உடன் பொருத்துக

பட்டியல் I துணைப்பள்ளிகள்		பட்டியல் II முக்கிய சிறப்பம்சங்கள்	
A	காங்கரா	I	முதன்மை நிறங்கள் மற்றும் இதமான மஞ்சளின் வலுவான பயன்பாடு
B	படிசாணி	II	பசுமையான பயிர்வளம், பூ, பறவை மற்றும் காட்டுவிலங்கு கொண்ட நிலப்பரப்பு
C	மேவார்	III	ரம்யமான அழகுடன் கூடிய மிகவும் கவிதைநயமிக்க பாசரம் நடை ஒலியங்கள்
D	புந்தி	IV	மாயக் கலைஞர்களின் கை வண்ணத்தால் படவியல் கலைநயமனது புதிய வடிவம் பெற்றுள்ளது.

கீழே தரப்பட்டுள்ள வாய்ப்புகளில் இருந்து சரியான விடையைத் தேர்ந்தெடுக்கவும்:

1. A-III, B-II, C-I, D-IV
2. A-III, B-I, C-IV, D-II
3. A-IV, B-I, C-II, D-III
4. A-I, B-III, C-II, D-IV

Options :

485584144737. 1  
485584144738. 2  
485584144739. 3  
485584144740. 4

Question Number : 435 Question Id : 48558436185 Question Type : MCQ Option Shuffling : No Is Question Mandatory : No Calculator : None Response Time : N.A Think Time : N.A Minimum Instruction Time : 0

Correct Marks : 5 Wrong Marks : 1

Question Key Details :

Key	Value
Comprehension	MCQ2

சாவிதா I னி சாவிதா II தீ் சதவீயுண்டி

சாவிதா I தவ்-பாரசாலலு	சாவிதா II மூலு அக்கயுலு		
A	காரா	I	பாதிமிக ருங்குலு மூரியு ரீதீ் வஸுவுல வாடீகம்
B	புலாதி	II	வவ்வுனி வுக் துண்ட, வுக் துலதீ் கூடீன் புக் து துக் து, வுக் து மூரியு வஸுவுலு
C	மூவார்	III	நிர்வலுமூன் அண்டல்தீ் கூடீன் தாலா தவீதா மூரியு திரிகலீ் வுயுண்டீங்கு
D	புண்டி	IV	நிர்வலுவுல காலாருல அருவூலு புத் து துக் து ரீ் வுலாதி தீயவூண்டி

கீரீண்ட அவ்வுவூடீன் விகலாலுலீ் ஸுண்டி துரீன் சவாபுனி வுயுக் து

1. A-III, B-II, C-I, D-IV
2. A-III, B-I, C-IV, D-II
3. A-IV, B-I, C-II, D-III
4. A-I, B-III, C-II, D-IV

Options :

485584144737. 1  
485584144738. 2  
485584144739. 3  
485584144740. 4



Question Number : 435 Question Id : 48558436185 Question Type : MCQ Option Shuffling : No Is Question Mandatory : No Calculator : None  
 Response Time : N.A Think Time : N.A Minimum Instruction Time : 0  
 Correct Marks : 5 Wrong Marks : 1  
 Question Key Details :

Key	Value
Comprehension	MCQ2

فہرست I کو فہرست II سے مٹائیں

فہرست II (خصوصیات)	فہرست I (سیداسگوٹز)
I. بنیادی رنگ اور گرم پیلے رنگوں کا مضبوط امتزاج	A. کانگریز
II. فریڈز ہوتے، بھولے ہوئے، بولندے اور جنگلی حیات سے زمین کی تزیین	B. نسولی
III. فز مندوں خواہسورتی کے ساتھ ساتھ اور گیت والی بیٹنگ	C. مہول
IV. مختلف فن کاروں کے زیر عمل تصویریں جدلیات کی دوبارہ تشکیل	D. ہندی

نیچے سے درست جواب کا انتخاب کریں :

1. A-III, B-II, C-I, D-IV
2. A-III, B-I, C-IV, D-II
3. A-IV, B-I, C-II, D-III
4. A-I, B-III, C-II, D-IV

**Options :**

485584144737. 1  
 485584144738. 2  
 485584144739. 3  
 485584144740. 4

## Geography

Group Number :	9
Group Id :	485584858
Group Maximum Duration :	45
Group Minimum Duration :	45
Show Attended Group? :	No
Edit Attended Group? :	No
Break time :	0
Group Marks :	200
Is this Group for Examiner? :	No
Examiner permission :	Cant View
Show Progress Bar? :	No

## Geography

Section Id :	485584988
Section Number :	1
Section type :	Online

**Mandatory or Optional :** Mandatory  
**Number of Questions :** 50  
**Number of Questions to be attempted :** 40  
**Section Marks :** 200  
**Enable Mark as Answered Mark for Review and Clear Response :** Yes  
**Maximum Instruction Time :** 0  
**Sub-Section Number :** 1  
**Sub-Section Id :** 4855842814  
**Question Shuffling Allowed :** Yes  
**Is Section Default? :** null

**Question Number :** 436 **Question Id :** 48558437131 **Question Type :** MCQ **Option Shuffling :** No **Is Question Mandatory :** No **Calculator :** None  
**Response Time :** N.A **Think Time :** N.A **Minimum Instruction Time :** 0

**Correct Marks :** 5 **Wrong Marks :** 1

**Question Key Details :**

Key	Value
Comprehension	MCQ

The people of Nikobar Islands speak the languages belonging to which one of the following groups?

1. Dravidian
2. Sino-Tibetan
3. Austric
4. Indo-European

**Options :**

485584148521. 1  
485584148522. 2  
485584148523. 3  
485584148524. 4

**Question Number :** 436 **Question Id :** 48558437131 **Question Type :** MCQ **Option Shuffling :** No **Is Question Mandatory :** No **Calculator :** None  
**Response Time :** N.A **Think Time :** N.A **Minimum Instruction Time :** 0

**Correct Marks :** 5 **Wrong Marks :** 1

**Question Key Details :**

Key	Value
Comprehension	MCQ

निकोबार द्वीप के लोगों द्वारा बोले जाने वाली भाषा, निम्न में से कौन से समूह से संबंधित है?

1. द्रविड़
2. चीनी-तिब्बती
3. आस्ट्रिक
4. भारतीय-यूरोपीय

**Options :**

485584148521. 1  
485584148522. 2  
485584148523. 3  
485584148524. 4

**Question Number :** 437 **Question Id :** 48558437132 **Question Type :** MCQ **Option Shuffling :** No **Is Question Mandatory :** No **Calculator :** None  
**Response Time :** N.A **Think Time :** N.A **Minimum Instruction Time :** 0

**Correct Marks :** 5 **Wrong Marks :** 1

**Question Key Details :**

Key	Value
-----	-------

According to 2011 census, the number of female workers is relatively high in \_\_\_\_\_.

1. Quaternary sector
2. Transport sector
3. Manufacturing sector
4. Primary sector

**Options :**

485584148525. 1  
485584148526. 2  
485584148527. 3  
485584148528. 4

**Question Number : 437 Question Id : 48558437132 Question Type : MCQ Option Shuffling : No Is Question Mandatory : No Calculator : None Response Time : N.A Think Time : N.A Minimum Instruction Time : 0**

**Correct Marks : 5 Wrong Marks : 1**

**Question Key Details :**

Key	Value
Comprehension	MCQ

2011 जनगणना के अनुसार महिला श्रमिकों की संख्या \_\_\_\_\_ में अपेक्षाकृत अधिक है।

1. चतुर्थ सेक्टर
2. परिवहन सेक्टर
3. निर्माण सेक्टर
4. प्राथमिक सेक्टर

**Options :**

485584148525. 1  
485584148526. 2  
485584148527. 3  
485584148528. 4

**Question Number : 438 Question Id : 48558437133 Question Type : MCQ Option Shuffling : No Is Question Mandatory : No Calculator : None Response Time : N.A Think Time : N.A Minimum Instruction Time : 0**

**Correct Marks : 5 Wrong Marks : 1**

**Question Key Details :**

Key	Value
Comprehension	MCQ

The Human Development Index was created by \_\_\_\_\_.

1. European Union
2. A. Smith
3. Mahbub-ul-Haq
4. World Health Organisation

**Options :**

485584148529. 1  
485584148530. 2  
485584148531. 3  
485584148532. 4

Question Number : 438 Question Id : 48558437133 Question Type : MCQ Option Shuffling : No Is Question Mandatory : No Calculator : None  
Response Time : N.A Think Time : N.A Minimum Instruction Time : 0

Correct Marks : 5 Wrong Marks : 1

Question Key Details :

Key	Value
Comprehension	MCQ

मानव विकास सूचकांक \_\_\_\_\_ के द्वारा बनाया गया।

1. यूरोपियन यूनियन
2. A. Smith
3. महबूब-इल-हक
4. विश्व स्वास्थ्य संगठन

Options :

485584148529. 1

485584148530. 2

485584148531. 3

485584148532. 4

Question Number : 439 Question Id : 48558437134 Question Type : MCQ Option Shuffling : No Is Question Mandatory : No Calculator : None  
Response Time : N.A Think Time : N.A Minimum Instruction Time : 0

Correct Marks : 5 Wrong Marks : 1

Question Key Details :

Key	Value
Comprehension	MCQ

\_\_\_\_\_ is not located on a river bank.

1. Bhopal
2. Kanpur
3. Lucknow
4. Kolkata

Options :

485584148533. 1

485584148534. 2

485584148535. 3

485584148536. 4

Question Number : 439 Question Id : 48558437134 Question Type : MCQ Option Shuffling : No Is Question Mandatory : No Calculator : None  
Response Time : N.A Think Time : N.A Minimum Instruction Time : 0

Correct Marks : 5 Wrong Marks : 1

Question Key Details :

Key	Value
Comprehension	MCQ

\_\_\_\_\_ नगर नदी तट पर स्थित नहीं है।

1. भीपाल
2. कानपुर
3. लखनऊ
4. कोलकत्ता

**Options :**

485584148533. 1  
485584148534. 2  
485584148535. 3  
485584148536. 4

**Question Number : 440 Question Id : 48558437135 Question Type : MCQ Option Shuffling : No Is Question Mandatory : No Calculator : None Response Time : N.A Think Time : N.A Minimum Instruction Time : 0**

**Correct Marks : 5 Wrong Marks : 1**

**Question Key Details :**

Key	Value
Comprehension	MCQ

\_\_\_\_\_ is the most important and longest inland waterway of India.

1. Farakka -Patna
2. Sadiya- Dhubri
3. Allahabad-Patna
4. Allahabad- Haldia

**Options :**

485584148537. 1  
485584148538. 2  
485584148539. 3  
485584148540. 4

**Question Number : 440 Question Id : 48558437135 Question Type : MCQ Option Shuffling : No Is Question Mandatory : No Calculator : None Response Time : N.A Think Time : N.A Minimum Instruction Time : 0**

**Correct Marks : 5 Wrong Marks : 1**

**Question Key Details :**

Key	Value
Comprehension	MCQ

भारत का सबसे प्रमुख तथा लंबा अंतः स्थलीय जल मार्ग \_\_\_\_\_ है।

1. फरक्का-पटना
2. सदिया-धुबरी
3. इलाहाबाद-पटना
4. इलाहाबाद- हल्दिया

**Options :**

485584148537. 1  
485584148538. 2  
485584148539. 3  
485584148540. 4

Question Number : 441 Question Id : 48558437136 Question Type : MCQ Option Shuffling : No Is Question Mandatory : No Calculator : None  
Response Time : N.A Think Time : N.A Minimum Instruction Time : 0

Correct Marks : 5 Wrong Marks : 1

Question Key Details :

Key	Value
Comprehension	MCQ

\_\_\_\_\_ is the biggest sea port of India.

1. Marmagao
2. Mumbai
3. Paradwip
4. Tuticorin

Options :

485584148541. 1  
485584148542. 2  
485584148543. 3  
485584148544. 4

Question Number : 441 Question Id : 48558437136 Question Type : MCQ Option Shuffling : No Is Question Mandatory : No Calculator : None  
Response Time : N.A Think Time : N.A Minimum Instruction Time : 0

Correct Marks : 5 Wrong Marks : 1

Question Key Details :

Key	Value
Comprehension	MCQ

भारत का सबसे बड़ा समुद्री पत्तन \_\_\_\_\_ है।

1. मारमागाओ
2. मुंबई
3. पारादीप
4. तुतीकोरिन

Options :

485584148541. 1  
485584148542. 2  
485584148543. 3  
485584148544. 4

Question Number : 442 Question Id : 48558437137 Question Type : MCQ Option Shuffling : No Is Question Mandatory : No Calculator : None  
Response Time : N.A Think Time : N.A Minimum Instruction Time : 0

Correct Marks : 5 Wrong Marks : 1

Question Key Details :

Key	Value
Comprehension	MCQ

Arrange the following software technology parks of India from west to east.

- A. Kolkata
- B. Lucknow
- C. Guwahati
- D. Indore

Choose the correct answer from the options given below:

- 1. B, D, C, A
- 2. B, D, A, C
- 3. D, B, C, A
- 4. D, B, A, C

**Options :**

- 485584148545. 1
- 485584148546. 2
- 485584148547. 3
- 485584148548. 4

**Question Number : 442 Question Id : 48558437137 Question Type : MCQ Option Shuffling : No Is Question Mandatory : No Calculator : None Response Time : N.A Think Time : N.A Minimum Instruction Time : 0 Correct Marks : 5 Wrong Marks : 1**

**Question Key Details :**

Key	Value
Comprehension	MCQ

भारत के निम्नलिखित साफ्टवेयर तकनीकी पार्कों को पश्चिम से पूर्व की दिशा में व्यवस्थित कीजिए।

- A. कोलकाता
- B. लखनऊ
- C. गुवाहाटी
- D. इंदौर

नीचे दिए गए विकल्पों में से सही उत्तर का चयन कीजिए:

- 1. B, D, C, A
- 2. B, D, A, C
- 3. D, B, C, A
- 4. D, B, A, C

**Options :**

- 485584148545. 1
- 485584148546. 2
- 485584148547. 3
- 485584148548. 4

**Question Number : 443 Question Id : 48558437138 Question Type : MCQ Option Shuffling : No Is Question Mandatory : No Calculator : None Response Time : N.A Think Time : N.A Minimum Instruction Time : 0 Correct Marks : 5 Wrong Marks : 1**

**Question Key Details :**

Key	Value
Comprehension	MCQ

Identify the correct statements about green revolution.

- A. High yielding varieties of seeds were available by mid-1960s.
- B. Assured supply of moisture for crops is must.
- C. Fertilizers and pesticides are required for good harvest.
- D. It was very successful in Uttar Pradesh and Central India.

Choose the correct answer from the options given below:

- 1. A, B & C only
- 2. A, B & D only
- 3. A, C & D only
- 4. B, C & D only

**Options :**

- 485584148549. 1
- 485584148550. 2
- 485584148551. 3
- 485584148552. 4

**Question Number : 443 Question Id : 48558437138 Question Type : MCQ Option Shuffling : No Is Question Mandatory : No Calculator : None Response Time : N.A Think Time : N.A Minimum Instruction Time : 0 Correct Marks : 5 Wrong Marks : 1**

**Question Key Details :**

Key	Value
Comprehension	MCQ

हरित क्रांति के बारे में सही कथनों को पहचानें।

- A. 1960 के मध्य तक उच्च उत्पादकता किस्म के बीज उपलब्ध थे।
- B. फसलों के लिए नमी की विश्वस्त आपूर्ति अत्यावश्यक है।
- C. अच्छी फसल के लिए उर्वरक तथा कीटनाशक आवश्यक हैं।
- D. यह उत्तर प्रदेश व मध्य भारत में बहुत सफल रही।

नीचे दिए गए विकल्पों में से सही उत्तर का चयन कीजिए:

- 1. केवल A, B और C
- 2. केवल A, B और D
- 3. केवल A, C और D
- 4. केवल B, C और D

**Options :**

- 485584148549. 1
- 485584148550. 2
- 485584148551. 3
- 485584148552. 4

**Question Number : 444 Question Id : 48558437139 Question Type : MCQ Option Shuffling : No Is Question Mandatory : No Calculator : None Response Time : N.A Think Time : N.A Minimum Instruction Time : 0 Correct Marks : 5 Wrong Marks : 1**

**Question Key Details :**

Key	Value
Comprehension	MCQ



Identify the correct statement about Golden Quadrilateral.

- A. Its length is about 7959 km.
- B. It is a corridor of high traffic density.
- C. It connects India's four major metropolises.
- D. It reduces time-distance and cost of transportation.

Choose the correct answer from the options given below:

- 1. A, B & C only
- 2. A, B & D only
- 3. A, C & D only
- 4. B, C & D only

**Options :**

- 485584148553. 1
- 485584148554. 2
- 485584148555. 3
- 485584148556. 4

**Question Number : 444 Question Id : 48558437139 Question Type : MCQ Option Shuffling : No Is Question Mandatory : No Calculator : None Response Time : N.A Think Time : N.A Minimum Instruction Time : 0 Correct Marks : 5 Wrong Marks : 1**

**Question Key Details :**

Key	Value
Comprehension	MCQ

स्वर्णिम चतुर्भुज के बारे में सही कथनों को पहचानें।

- A. इसकी लंबाई लगभग 7959 कि मी है।
- B. यह उच्च यातायात सघनता वाला मार्ग है।
- C. यह भारत के चार प्रमुख महानगरों को जोड़ता है।
- D. यह परिवहन की समय-दूरी तथा लागत को कम करता है।

नीचे दिए गए विकल्पों में से सही उत्तर का चयन कीजिए:

- 1. केवल A, B और C
- 2. केवल A, B और D
- 3. केवल A, C और D
- 4. केवल B, C और D

**Options :**

- 485584148553. 1
- 485584148554. 2
- 485584148555. 3
- 485584148556. 4

**Question Number : 445 Question Id : 48558437140 Question Type : MCQ Option Shuffling : No Is Question Mandatory : No Calculator : None Response Time : N.A Think Time : N.A Minimum Instruction Time : 0 Correct Marks : 5 Wrong Marks : 1**

**Question Key Details :**

Key	Value
Comprehension	MCQ

Match List I with List II

LIST I (Headquarter)		LIST II (Railway Zone)	
A.	Kolkata	I.	North Eastern
B.	Jabalpur	II.	South Central
C.	Gorakhpur	III.	West Central
D.	Sikandarabad	IV.	Eastern

Choose the correct answer from the options given below:

1. A-II, B-IV, C-I, D-III
2. A-IV, B-I, C-III, D-II
3. A-IV, B-III, C-I, D-II
4. A-III, B-II, C-I, D-IV

**Options :**

485584148557. 1  
485584148558. 2  
485584148559. 3  
485584148560. 4

Question Number : 445 Question Id : 48558437140 Question Type : MCQ Option Shuffling : No Is Question Mandatory : No Calculator : None  
Response Time : N.A Think Time : N.A Minimum Instruction Time : 0  
Correct Marks : 5 Wrong Marks : 1

**Question Key Details :**

Key	Value
Comprehension	MCQ

सूची I का सूची II से मिलान कीजिए

सूची I (मुख्यालय)	सूची II (रेलवे जोन)
A. कोतकाता	I. उत्तर-पूर्वी
B. जबतपुर	II. दक्षिणी मध्य
C. गोरखपुर	III. पश्चिमी मध्य
D. सिकंदराबाद	IV. पूर्वी

निम्नलिखित विकल्पों में से सही उत्तर का चयन कीजिए :

1. A-II, B-IV, C-I, D-III
2. A-IV, B-I, C-III, D-II
3. A-IV, B-III, C-I, D-II
4. A-III, B-II, C-I, D-IV

**Options :**

485584148557. 1  
485584148558. 2  
485584148559. 3  
485584148560. 4

Question Number : 446 Question Id : 48558437141 Question Type : MCQ Option Shuffling : No Is Question Mandatory : No Calculator : None  
Response Time : N.A Think Time : N.A Minimum Instruction Time : 0  
Correct Marks : 5 Wrong Marks : 1

**Question Key Details :**

Key	Value
Comprehension	MCQ

Clustered rural settlements are found \_\_\_\_\_

1. in alluvial plains of Ganga River
2. on small hills with farms or pastures on the slope
3. on ridges of the Himalayas
4. in thick forest and hills of north-east

**Options :**

485584148561. 1

485584148562. 2

485584148563. 3

485584148564. 4

Question Number : 446 Question Id : 48558437141 Question Type : MCQ Option Shuffling : No Is Question Mandatory : No Calculator : None  
Response Time : N.A Think Time : N.A Minimum Instruction Time : 0

Correct Marks : 5 Wrong Marks : 1

Question Key Details :

Key	Value
Comprehension	MCQ

गुच्छित ग्रामीण बस्तियाँ \_\_\_\_\_ पाई जाती है।

1. गंगा नदी के जलोढ़ मैदानों में
2. छोटे पहाड़ों की ढलानों पर खेतों या चरागाहों में
3. हिमालय के कटकों में
4. उत्तर-पूर्व के घने जंगलों और पहाड़ियों में

**Options :**

485584148561. 1

485584148562. 2

485584148563. 3

485584148564. 4

Question Number : 447 Question Id : 48558437142 Question Type : MCQ Option Shuffling : No Is Question Mandatory : No Calculator : None  
Response Time : N.A Think Time : N.A Minimum Instruction Time : 0

Correct Marks : 5 Wrong Marks : 1

Question Key Details :

Key	Value
Comprehension	MCQ

\_\_\_\_\_ is grown in all three cropping seasons in south India?

1. Maize
2. Jowar
3. Rice
4. Wheat

**Options :**

485584148565. 1

485584148566. 2

485584148567. 3

485584148568. 4

Question Number : 447 Question Id : 48558437142 Question Type : MCQ Option Shuffling : No Is Question Mandatory : No Calculator : None  
Response Time : N.A Think Time : N.A Minimum Instruction Time : 0  
Correct Marks : 5 Wrong Marks : 1  
Question Key Details :

Key	Value
Comprehension	MCQ

दक्षिण भारत के सभी तीन फसल मौसमों में \_\_\_\_\_ उगायी जाती है।

1. मक्का
2. ज्वार
3. चावल
4. गेहूँ

Options :

485584148565. 1  
485584148566. 2  
485584148567. 3  
485584148568. 4

Question Number : 448 Question Id : 48558437143 Question Type : MCQ Option Shuffling : No Is Question Mandatory : No Calculator : None  
Response Time : N.A Think Time : N.A Minimum Instruction Time : 0  
Correct Marks : 5 Wrong Marks : 1  
Question Key Details :

Key	Value
Comprehension	MCQ

\_\_\_\_\_ water development project is sponsored by a Central Government.

1. Jolad Scheme
2. Array Pari Sansad
3. Neeru Meeru
4. Haryali

Options :

485584148569. 1  
485584148570. 2  
485584148571. 3  
485584148572. 4

Question Number : 448 Question Id : 48558437143 Question Type : MCQ Option Shuffling : No Is Question Mandatory : No Calculator : None  
Response Time : N.A Think Time : N.A Minimum Instruction Time : 0  
Correct Marks : 5 Wrong Marks : 1  
Question Key Details :

Key	Value
Comprehension	MCQ

जल विकास परियोजना केन्द्र सरकार द्वारा प्रायोजित है।

1. जोहड़ योजना
2. आरवरी पानी संसद
3. नीरू-मीरू
4. हरियाली

**Options :**

485584148569. 1  
485584148570. 2  
485584148571. 3  
485584148572. 4

**Question Number : 449 Question Id : 48558437144 Question Type : MCQ Option Shuffling : No Is Question Mandatory : No Calculator : None Response Time : N.A Think Time : N.A Minimum Instruction Time : 0**

**Correct Marks : 5 Wrong Marks : 1**

**Question Key Details :**

Key	Value
Comprehension	MCQ

The Petrofils Cooperative Limited (PCL) plant, a joint venture of Government of India and weaver's cooperative, is located at \_\_\_\_\_

1. Chandigarh
2. Vadodara
3. Lucknow
4. Jaipur

**Options :**

485584148573. 1  
485584148574. 2  
485584148575. 3  
485584148576. 4

**Question Number : 449 Question Id : 48558437144 Question Type : MCQ Option Shuffling : No Is Question Mandatory : No Calculator : None Response Time : N.A Think Time : N.A Minimum Instruction Time : 0**

**Correct Marks : 5 Wrong Marks : 1**

**Question Key Details :**

Key	Value
Comprehension	MCQ

भारत सरकार तथा बुनकर सहकारी का संयुक्त उद्यम, पेट्रोफिल्स कोऑपरेटिव लिमिटेड (PCL) प्लांट \_\_\_\_\_ में स्थित है।

1. चण्डीगढ़
2. वड़ोदरा
3. लखनऊ
4. जयपुर

**Options :**

485584148573. 1  
485584148574. 2

485584148575. 3  
485584148576. 4

Question Number : 450 Question Id : 48558437145 Question Type : MCQ Option Shuffling : No Is Question Mandatory : No Calculator : None  
Response Time : N.A Think Time : N.A Minimum Instruction Time : 0  
Correct Marks : 5 Wrong Marks : 1

Question Key Details :

Key	Value
Comprehension	MCQ

The roads laid along international boundaries are known as \_\_\_\_\_

1. State highways
2. Border roads
3. Military roads
4. Military expressways

Options :

485584148577. 1  
485584148578. 2  
485584148579. 3  
485584148580. 4

Question Number : 450 Question Id : 48558437145 Question Type : MCQ Option Shuffling : No Is Question Mandatory : No Calculator : None  
Response Time : N.A Think Time : N.A Minimum Instruction Time : 0  
Correct Marks : 5 Wrong Marks : 1

Question Key Details :

Key	Value
Comprehension	MCQ

सड़के जो अंतर्राष्ट्रीय सीमाओं के साथ बनायी जाती हैं \_\_\_\_\_ कहलाती हैं।

1. राज्य मार्ग
2. सीमा सड़क
3. सैन्य सड़क
4. सैन्य एक्सप्रेसवेयज

Options :

485584148577. 1  
485584148578. 2  
485584148579. 3  
485584148580. 4

Question Number : 451 Question Id : 48558437146 Question Type : MCQ Option Shuffling : No Is Question Mandatory : No Calculator : None  
Response Time : N.A Think Time : N.A Minimum Instruction Time : 0  
Correct Marks : 5 Wrong Marks : 1

Question Key Details :

Key	Value
Comprehension	MCQ

\_\_\_\_\_ is NOT a cause of water pollution?

1. Expansion of settlements
2. Landslides
3. Melting of glaciers
4. Industrialisation

**Options :**

485584148581. 1  
485584148582. 2  
485584148583. 3  
485584148584. 4

**Question Number : 451 Question Id : 48558437146 Question Type : MCQ Option Shuffling : No Is Question Mandatory : No Calculator : None Response Time : N.A Think Time : N.A Minimum Instruction Time : 0 Correct Marks : 5 Wrong Marks : 1**

**Question Key Details :**

Key	Value
Comprehension	MCQ

\_\_\_\_\_ जल प्रदूषण का कारण नहीं है।

1. बस्तियों का फैलाव
2. भूस्खलन
3. हिमानियों का पिघलना
4. औद्योगिककरण

**Options :**

485584148581. 1  
485584148582. 2  
485584148583. 3  
485584148584. 4

**Question Number : 452 Question Id : 48558437147 Question Type : MCQ Option Shuffling : No Is Question Mandatory : No Calculator : None Response Time : N.A Think Time : N.A Minimum Instruction Time : 0 Correct Marks : 5 Wrong Marks : 1**

**Question Key Details :**

Key	Value
Comprehension	MCQ

Arrange the following river basins according to their area in descending order.

- A. Kaveri basin
- B. Mahi basin
- C. Ganga basin
- D. Godavari basin

Choose the correct answer from the options given below:

1. C, D, B, A
2. C, D, A, B
3. C, A, D, B
4. C, A, B, D

**Options :**

485584148585. 1  
485584148586. 2  
485584148587. 3  
485584148588. 4

Question Number : 452 Question Id : 48558437147 Question Type : MCQ Option Shuffling : No Is Question Mandatory : No Calculator : None  
Response Time : N.A Think Time : N.A Minimum Instruction Time : 0

Correct Marks : 5 Wrong Marks : 1

Question Key Details :

Key	Value
Comprehension	MCQ

निम्नलिखित नदी बेसिनों को उनके क्षेत्र के अनुसार अवरोही क्रम में व्यवस्थित करें।

- A. कावेरी बेसिन
- B. माही बेसिन
- C. गंगा बेसिन
- D. गोदावरी बेसिन

नीचे दिए गए विकल्पों में से सही उत्तर का चयन कीजिए:

- 1. C, D, B, A
- 2. C, D, A, B
- 3. C, A, D, B
- 4. C, A, B, D

**Options :**

485584148585. 1  
485584148586. 2  
485584148587. 3  
485584148588. 4

Question Number : 453 Question Id : 48558437148 Question Type : MCQ Option Shuffling : No Is Question Mandatory : No Calculator : None  
Response Time : N.A Think Time : N.A Minimum Instruction Time : 0

Correct Marks : 5 Wrong Marks : 1

Question Key Details :

Key	Value
Comprehension	MCQ

Which of the following characteristics of rain water harvesting are correct?

- A. It is a method to capture and store rainwater.
- B. It is a complicated and requires huge investments.
- C. It is a method of sustainable water management.
- D. It can be done by harvesting rainwater on rooftops and open spaces.

Choose the correct answer from the options given below:

- 1. A, B & C only
- 2. A, C & D only
- 3. B, C & D only
- 4. A, B & D only

**Options :**

485584148589. 1  
485584148590. 2  
485584148591. 3



Question Number : 453 Question Id : 48558437148 Question Type : MCQ Option Shuffling : No Is Question Mandatory : No Calculator : None  
Response Time : N.A Think Time : N.A Minimum Instruction Time : 0  
Correct Marks : 5 Wrong Marks : 1

Question Key Details :

Key	Value
Comprehension	MCQ

वर्षा जल संग्रहण की निम्नलिखित विशेषताओं में से कौनसे सही है?

- यह वर्षा जल को एकत्रित व संग्रहण की एक विधि है।
- यह जटिल तथा अत्याधिक वित्त की आवश्यकता वाली है।
- यह सतत विकास प्रबंधन की एक विधि है।
- यह छतों तथा खुले स्थानों पर वर्षा जल संग्रहण करके की जा सकती है।

नीचे दिए गए विकल्पों में से सही उत्तर का चयन कीजिए:

- केवल A, B और C
- केवल A, C और D
- केवल B, C और D
- केवल A, B और D

Options :

485584148589. 1

485584148590. 2

485584148591. 3

485584148592. 4

Question Number : 454 Question Id : 48558437149 Question Type : MCQ Option Shuffling : No Is Question Mandatory : No Calculator : None  
Response Time : N.A Think Time : N.A Minimum Instruction Time : 0  
Correct Marks : 5 Wrong Marks : 1

Question Key Details :

Key	Value
Comprehension	MCQ

Match List I with List II

LIST I Basis of Classification		LIST II Consumer Category	
A.	Ownership	I.	Goods
B.	Capital investment	II.	Mineral based
C.	Use of their products	III.	Private sector
D.	Raw materials used by them	IV.	Cottage industry

Choose the correct answer from the options given below:

- A-II, B-I, C-III, D-IV
- A-III, B-IV, C-I, D-II
- A-III, B-II, C-IV, D-I
- A-III, B-II, C-I, D-IV

Options :

485584148593. 1

485584148594. 2

485584148595. 3

Question Number : 454 Question Id : 48558437149 Question Type : MCQ Option Shuffling : No Is Question Mandatory : No Calculator : None  
 Response Time : N.A Think Time : N.A Minimum Instruction Time : 0  
 Correct Marks : 5 Wrong Marks : 1  
 Question Key Details :

Key	Value
Comprehension	MCQ

सूची I का सूची II से मिलान कीजिए

सूची I वर्गीकरण का आधार		सूची II उपभोक्ता वर्ग	
A.	स्वामित्व	I.	उपभोक्ता वस्तुएँ
B.	पूँजी निवेश	II.	खनिज आधारित
C.	उनके उत्पादों का प्रयोग	III.	निजी क्षेत्र
D.	उनके द्वारा कच्चा माल प्रयोग किया जाना	IV.	कुटीर उद्योग

निम्नलिखित विकल्पों में से सही उत्तर का चयन कीजिए :

1. A-II, B-I, C-III, D-IV
2. A-III, B-IV, C-I, D-II
3. A-III, B-II, C-IV, D-I
4. A-III, B-II, C-I, D-IV

Options :

485584148593. 1  
 485584148594. 2  
 485584148595. 3  
 485584148596. 4

Question Number : 455 Question Id : 48558437150 Question Type : MCQ Option Shuffling : No Is Question Mandatory : No Calculator : None  
 Response Time : N.A Think Time : N.A Minimum Instruction Time : 0

Correct Marks : 5 Wrong Marks : 1

Question Key Details :

Key	Value
Comprehension	MCQ

Match List I with List II

LIST I Pollution Types		LIST II Sources of Pollution	
A.	Air Pollution	I.	Use of pesticides
B.	Water Pollution	II.	Advertising media
C.	Land Pollution	III.	Combustion of coal
D.	Noise Pollution	IV.	Effluents from industries

Choose the correct answer from the options given below:

1. A-I, B-III, C-IV, D-II
2. A-II, B-IV, C-I, D-III
3. A-III, B-IV, C-I, D-II
4. A-IV, B-II, C-III, D-I

Options :

485584148597. 1  
485584148598. 2  
485584148599. 3  
485584148600. 4

Question Number : 455 Question Id : 48558437150 Question Type : MCQ Option Shuffling : No Is Question Mandatory : No Calculator : None  
Response Time : N.A Think Time : N.A Minimum Instruction Time : 0

Correct Marks : 5 Wrong Marks : 1

Question Key Details :

Key	Value
Comprehension	MCQ

सूची I का सूची II से मिलान कीजिए

सूची I प्रदूषण प्रकार	सूची II प्रदूषण का स्त्रोत
A. वायु प्रदूषण	I. कीटनाशकों का प्रयोग
B. जल प्रदूषण	II. विज्ञापन माध्यम
C. भूमि प्रदूषण	III. कोयले का दहन
D. ध्वनि प्रदूषण	IV. उद्योगों से अपशिष्ट बहिस्राव

निम्नलिखित विकल्पों में से सही उत्तर का चयन कीजिए :

1. A-I, B-III, C-IV, D-II

2. A-II, B-IV, C-I, D-III

3. A-III, B-IV, C-I, D-II

4. A-IV, B-II, C-III, D-I

Options :

485584148597. 1  
485584148598. 2  
485584148599. 3  
485584148600. 4

Question Number : 456 Question Id : 48558437151 Question Type : MCQ Option Shuffling : No Is Question Mandatory : No Calculator : None  
Response Time : N.A Think Time : N.A Minimum Instruction Time : 0

Correct Marks : 5 Wrong Marks : 1

Question Key Details :

Key	Value
Comprehension	MCQ

Human geography was defined as the synthetic study of relationship between Human societies and earth surface by \_\_\_\_\_

1. A. Weber

2. Vidal de-la-Blache

3. Ritter

4. Ratzel

Options :

485584148601. 1  
485584148602. 2  
485584148603. 3  
485584148604. 4

Question Number : 456 Question Id : 48558437151 Question Type : MCQ Option Shuffling : No Is Question Mandatory : No Calculator : None  
Response Time : N.A Think Time : N.A Minimum Instruction Time : 0  
Correct Marks : 5 Wrong Marks : 1

Question Key Details :

Key	Value
Comprehension	MCQ

मानव भूगोल को मानव समाजों और धरातल के बीच संबंधों के संश्लेषित अध्ययन के रूप में हे \_\_\_\_\_ ने परिभाषित किया था।

1. ए. वेबर
2. विडाल-डी. ला ब्लाश
3. रिटर
4. रेटज़ेल

Options :

485584148601. 1  
485584148602. 2  
485584148603. 3  
485584148604. 4

Question Number : 457 Question Id : 48558437152 Question Type : MCQ Option Shuffling : No Is Question Mandatory : No Calculator : None  
Response Time : N.A Think Time : N.A Minimum Instruction Time : 0  
Correct Marks : 5 Wrong Marks : 1

Question Key Details :

Key	Value
Comprehension	MCQ

The technological development of any society indicates \_\_\_\_\_.

1. Natural development
2. Physical development
3. Cultural development
4. Spiritual development

Options :

485584148605. 1  
485584148606. 2  
485584148607. 3  
485584148608. 4

Question Number : 457 Question Id : 48558437152 Question Type : MCQ Option Shuffling : No Is Question Mandatory : No Calculator : None  
Response Time : N.A Think Time : N.A Minimum Instruction Time : 0  
Correct Marks : 5 Wrong Marks : 1

Question Key Details :

Key	Value
Comprehension	MCQ

\_\_\_\_\_ किसी भी समाज के तकनीकी विकास को इंगित करते है।

1. राष्ट्रीय विकास
2. भौतिक विकास
3. सांस्कृतिक विकास
4. आध्यात्मिक विकास

**Options :**

485584148605. 1  
485584148606. 2  
485584148607. 3  
485584148608. 4

**Question Number : 458 Question Id : 48558437153 Question Type : MCQ Option Shuffling : No Is Question Mandatory : No Calculator : None Response Time : N.A Think Time : N.A Minimum Instruction Time : 0**

**Correct Marks : 5 Wrong Marks : 1**

**Question Key Details :**

Key	Value
Comprehension	MCQ

Military geography is a sub field of \_\_\_\_\_

1. Social Geography
2. Human Geography
3. Political Geography
4. Physical Geography

**Options :**

485584148609. 1  
485584148610. 2  
485584148611. 3  
485584148612. 4

**Question Number : 458 Question Id : 48558437153 Question Type : MCQ Option Shuffling : No Is Question Mandatory : No Calculator : None Response Time : N.A Think Time : N.A Minimum Instruction Time : 0**

**Correct Marks : 5 Wrong Marks : 1**

**Question Key Details :**

Key	Value
Comprehension	MCQ

सैन्य भूगोल, मानव भूगोल के .....क्षेत्र का उपक्षेत्र है।

1. सामाजिक भूगोल
2. मानव भूगोल
3. राजनीतिक भूगोल
4. भौतिक भूगोल

**Options :**

485584148609. 1  
485584148610. 2  
485584148611. 3  
485584148612. 4

Question Number : 459 Question Id : 48558437154 Question Type : MCQ Option Shuffling : No Is Question Mandatory : No Calculator : None  
Response Time : N.A Think Time : N.A Minimum Instruction Time : 0

Correct Marks : 5 Wrong Marks : 1

Question Key Details :

Key	Value
Comprehension	MCQ

Katanga copper belt is located in \_\_\_\_\_.

1. Asia
2. Africa
3. South America
4. Europe

Options :

485584148613. 1

485584148614. 2

485584148615. 3

485584148616. 4

Question Number : 459 Question Id : 48558437154 Question Type : MCQ Option Shuffling : No Is Question Mandatory : No Calculator : None  
Response Time : N.A Think Time : N.A Minimum Instruction Time : 0

Correct Marks : 5 Wrong Marks : 1

Question Key Details :

Key	Value
Comprehension	MCQ

कटंगा ताँबा पेटी \_\_\_\_\_ में स्थित है।

1. एशिया
2. अफ्रिका
3. दक्षिण अमेरिका
4. यूरोप

Options :

485584148613. 1

485584148614. 2

485584148615. 3

485584148616. 4

Question Number : 460 Question Id : 48558437155 Question Type : MCQ Option Shuffling : No Is Question Mandatory : No Calculator : None  
Response Time : N.A Think Time : N.A Minimum Instruction Time : 0

Correct Marks : 5 Wrong Marks : 1

Question Key Details :

Key	Value
Comprehension	MCQ

Chicle part of chewing gum is made from the milky juice of \_\_\_\_\_.

1. Rubber tree
2. Zapota tree
3. Coffee leaves
4. Tea leaves

**Options :**

485584148617. 1  
485584148618. 2  
485584148619. 3  
485584148620. 4

**Question Number : 460 Question Id : 48558437155 Question Type : MCQ Option Shuffling : No Is Question Mandatory : No Calculator : None Response Time : N.A Think Time : N.A Minimum Instruction Time : 0**

**Correct Marks : 5 Wrong Marks : 1**

**Question Key Details :**

Key	Value
Comprehension	MCQ

चुइंग गम का चिकल भाग \_\_\_\_\_ के दूधिया रस से बना होता है।

1. रबर के पेड़
2. जेपोटा पेड़
3. कॉफी पत्तियों
4. चाय पत्तियों

**Options :**

485584148617. 1  
485584148618. 2  
485584148619. 3  
485584148620. 4

**Question Number : 461 Question Id : 48558437156 Question Type : MCQ Option Shuffling : No Is Question Mandatory : No Calculator : None Response Time : N.A Think Time : N.A Minimum Instruction Time : 0**

**Correct Marks : 5 Wrong Marks : 1**

**Question Key Details :**

Key	Value
Comprehension	MCQ

The demographic transition theory is used to \_\_\_\_\_.

1. Explain globalisation
2. Describe and predict the future population of any area
3. Explain migration
4. Understand sex-composition of population

**Options :**

485584148621. 1  
485584148622. 2  
485584148623. 3  
485584148624. 4

Question Number : 461 Question Id : 48558437156 Question Type : MCQ Option Shuffling : No Is Question Mandatory : No Calculator : None  
Response Time : N.A Think Time : N.A Minimum Instruction Time : 0

Correct Marks : 5 Wrong Marks : 1

Question Key Details :

Key	Value
Comprehension	MCQ

जनसांख्यिकीय संक्रमण सिद्धांत का प्रयोग के लिए किया जाता है।

1. वैश्वीकरण का समझाने हेतु
2. किसी क्षेत्र की भावी जनसंख्या की व्याख्या व पूर्वानुमान
3. प्रवास को समझाने हेतु
4. जनसंख्या की लिंग संरचना को समझाने हेतु

Options :

485584148621. 1

485584148622. 2

485584148623. 3

485584148624. 4

Question Number : 462 Question Id : 48558437157 Question Type : MCQ Option Shuffling : No Is Question Mandatory : No Calculator : None  
Response Time : N.A Think Time : N.A Minimum Instruction Time : 0

Correct Marks : 5 Wrong Marks : 1

Question Key Details :

Key	Value
Comprehension	MCQ

\_\_\_\_\_ are NOT dependent on any specific raw materials?

1. Chemical Industries
2. Foot loose Industries
3. Heavy-metal Industries
4. Agro-based Industries

Options :

485584148625. 1

485584148626. 2

485584148627. 3

485584148628. 4

Question Number : 462 Question Id : 48558437157 Question Type : MCQ Option Shuffling : No Is Question Mandatory : No Calculator : None  
Response Time : N.A Think Time : N.A Minimum Instruction Time : 0

Correct Marks : 5 Wrong Marks : 1

Question Key Details :

Key	Value
Comprehension	MCQ



\_\_\_\_\_ उद्योग किसी विशिष्ट कच्चे माल पर आधारित नहीं है।

1. रासायनिक उद्योग
2. स्वच्छंद उद्योग
3. भारी-धातु उद्योग
4. कृषि आधारित उद्योग

**Options :**

485584148625. 1  
485584148626. 2  
485584148627. 3  
485584148628. 4

**Question Number : 463 Question Id : 48558437158 Question Type : MCQ Option Shuffling : No Is Question Mandatory : No Calculator : None Response Time : N.A Think Time : N.A Minimum Instruction Time : 0**

**Correct Marks : 5 Wrong Marks : 1**

**Question Key Details :**

Key	Value
Comprehension	MCQ

\_\_\_\_\_ are high tech industries that are regionally concentrated self sustained and, highly specialized.

1. Technology growth poles
2. Technopolies
3. Foot-loose Industries
4. Technohubs

**Options :**

485584148629. 1  
485584148630. 2  
485584148631. 3  
485584148632. 4

**Question Number : 463 Question Id : 48558437158 Question Type : MCQ Option Shuffling : No Is Question Mandatory : No Calculator : None Response Time : N.A Think Time : N.A Minimum Instruction Time : 0**

**Correct Marks : 5 Wrong Marks : 1**

**Question Key Details :**

Key	Value
Comprehension	MCQ

\_\_\_\_\_ प्रादेशिक संकेद्रित, आत्मनिर्भर तथा उच्च विशिष्टता वाले उच्च तकनीकी उद्योग होते हैं।

1. तकनीकी विकास ध्रुव
2. प्रोद्योगिक ध्रुव
3. स्वच्छंद उद्योग
4. टेक्नो हब

**Options :**

485584148629. 1  
485584148630. 2  
485584148631. 3  
485584148632. 4

Question Number : 464 Question Id : 48558437159 Question Type : MCQ Option Shuffling : No Is Question Mandatory : No Calculator : None  
Response Time : N.A Think Time : N.A Minimum Instruction Time : 0

Correct Marks : 5 Wrong Marks : 1

Question Key Details :

Key	Value
Comprehension	MCQ

Broad railway gauge is \_\_\_\_\_ wide.

1. More than 1.5 meter
2. less than 1.5 meter
3. 1.0 meter
4. Between 1 to 1.5 meter

Options :

- 485584148633. 1
- 485584148634. 2
- 485584148635. 3
- 485584148636. 4

Question Number : 464 Question Id : 48558437159 Question Type : MCQ Option Shuffling : No Is Question Mandatory : No Calculator : None  
Response Time : N.A Think Time : N.A Minimum Instruction Time : 0

Correct Marks : 5 Wrong Marks : 1

Question Key Details :

Key	Value
Comprehension	MCQ

चौड़ी रेल लाइन \_\_\_\_\_ चौड़ी होती है।

1. 1.5 मीटर से अधिक
2. 1.5 मीटर से कम
3. 1.0 मीटर
4. 1 से 1.5 मीटर के बीच

Options :

- 485584148633. 1
- 485584148634. 2
- 485584148635. 3
- 485584148636. 4

Question Number : 465 Question Id : 48558437160 Question Type : MCQ Option Shuffling : No Is Question Mandatory : No Calculator : None  
Response Time : N.A Think Time : N.A Minimum Instruction Time : 0

Correct Marks : 5 Wrong Marks : 1

Question Key Details :

Key	Value
Comprehension	MCQ

The orient express runs from \_\_\_\_\_.

1. New York to San Fransico
2. Halifax to Calgary
3. Moseow to Chita
4. Paris to Istanbul

Options :

485584148637. 1  
485584148638. 2  
485584148639. 3  
485584148640. 4

Question Number : 465 Question Id : 48558437160 Question Type : MCQ Option Shuffling : No Is Question Mandatory : No Calculator : None  
Response Time : N.A Think Time : N.A Minimum Instruction Time : 0

Correct Marks : 5 Wrong Marks : 1

Question Key Details :

Key	Value
Comprehension	MCQ

ओरिएन्ट एक्सप्रेस \_\_\_\_\_ के मध्य चलती है।

1. न्यूयार्क से सेन फ्रांसिस्को
2. हैलीफैक्स से कालगर्ली
3. मॉस्को से चीटा
4. पेरिस से इस्तांबूल

Options :

485584148637. 1  
485584148638. 2  
485584148639. 3  
485584148640. 4

Question Number : 466 Question Id : 48558437161 Question Type : MCQ Option Shuffling : No Is Question Mandatory : No Calculator : None  
Response Time : N.A Think Time : N.A Minimum Instruction Time : 0

Correct Marks : 5 Wrong Marks : 1

Question Key Details :

Key	Value
Comprehension	MCQ

By supporting development countries in setting up of capital intensive industries, the industrial nations ensure \_\_\_\_\_.

1. their carbon credits
2. markets for their finished products
3. exports of minerals to developing countries
4. social justice

Options :

485584148641. 1  
485584148642. 2  
485584148643. 3  
485584148644. 4

Question Number : 466 Question Id : 48558437161 Question Type : MCQ Option Shuffling : No Is Question Mandatory : No Calculator : None  
Response Time : N.A Think Time : N.A Minimum Instruction Time : 0

Correct Marks : 5 Wrong Marks : 1

Question Key Details :

Key	Value
Comprehension	MCQ

विकासशील देशों में पूँजी गहन उद्योगों की शुरुआत करने में सहायता करके, औद्योगिक राष्ट्र सुनिश्चित करते हैं \_\_\_\_\_।

1. अपने कार्बन क्रेडिट
2. उनके अंतिम उत्पादों के लिए बाज़ार
3. विकासशील देशों को खनिजों का निर्यात
4. सामाजिक न्याय

**Options :**

485584148641. 1  
485584148642. 2  
485584148643. 3  
485584148644. 4

**Question Number : 467 Question Id : 48558437162 Question Type : MCQ Option Shuffling : No Is Question Mandatory : No Calculator : None Response Time : N.A Think Time : N.A Minimum Instruction Time : 0**

**Correct Marks : 5 Wrong Marks : 1**

**Question Key Details :**

Key	Value
Comprehension	MCQ

\_\_\_\_\_ was the first urban settlement to reach a population of one million in the world.

1. Kolkata
2. New York
3. Tokyo
4. London

**Options :**

485584148645. 1  
485584148646. 2  
485584148647. 3  
485584148648. 4

**Question Number : 467 Question Id : 48558437162 Question Type : MCQ Option Shuffling : No Is Question Mandatory : No Calculator : None Response Time : N.A Think Time : N.A Minimum Instruction Time : 0**

**Correct Marks : 5 Wrong Marks : 1**

**Question Key Details :**

Key	Value
Comprehension	MCQ

\_\_\_\_\_ पहली नगरीय बस्ती है जिसकी जनसंख्या विश्व में एक मिलियन तक पहुँची।

1. कोलकाता
2. न्यूयॉर्क
3. टोक्यो
4. लंदन

**Options :**

485584148645. 1  
485584148646. 2  
485584148647. 3  
485584148648. 4

Question Number : 468 Question Id : 48558437163 Question Type : MCQ Option Shuffling : No Is Question Mandatory : No Calculator : None  
Response Time : N.A Think Time : N.A Minimum Instruction Time : 0

Correct Marks : 5 Wrong Marks : 1

Question Key Details :

Key	Value
Comprehension	MCQ

Which of the following statements about the definition of urban settlements by Census of India, are correct?

- A. All places which have municipality corporation cantonment board or notified town area committee.
- B. Minimum population of 5000 persons.
- C. At least 66% of male workers are engaged in non-agricultural pursuits.
- D. A density of population of at least 400 persons per square kilometer.

Choose the correct answer from the options given below:

- 1. A, B, C only
- 2. A, B, D only
- 3. B, C, D only
- 4. A, C, D only

Options :

485584148649. 1

485584148650. 2

485584148651. 3

485584148652. 4

Question Number : 468 Question Id : 48558437163 Question Type : MCQ Option Shuffling : No Is Question Mandatory : No Calculator : None  
Response Time : N.A Think Time : N.A Minimum Instruction Time : 0

Correct Marks : 5 Wrong Marks : 1

Question Key Details :

Key	Value
Comprehension	MCQ

भारत की जणगणना के अनुसार, नगरीय बस्तियों की परिभाषा के बारे में निम्नलिखित कथनों में से कौन-से सही है?

- A. सभी जगह जहाँ नगरपालिका निगम, छावनी बोर्ड या सूचित नगर क्षेत्र समिति हो।
- B. निम्नतम जनसंख्या 5000 व्यक्तियों की।
- C. कम से कम 66% पुरुष श्रमिक गैर कृषि कामों संलग्न हों।
- D. कम से कम 400 व्यक्ति प्रति वर्ग कि.मी. का जनसंख्या घनत्व हो।

नीचे दिए गए विकल्पों में से सही उत्तर का चयन कीजिए:

- 1. केवल A, B, C only
- 2. केवल A, B, D
- 3. केवल B, C, D
- 4. केवल A, C, D

Options :

485584148649. 1

485584148650. 2

485584148651. 3

485584148652. 4

Question Number : 469 Question Id : 48558437164 Question Type : MCQ Option Shuffling : No Is Question Mandatory : No Calculator : None  
Response Time : N.A Think Time : N.A Minimum Instruction Time : 0

Correct Marks : 5 Wrong Marks : 1

**Question Key Details :**

Key	Value
Comprehension	MCQ

Arrange the following stages of international trade in chronological order.

- A. Disintegration of Roman Empire
- B. Silk Route
- C. Slave Trade
- D. World Trade Organisation

Choose the correct answer from the options given below:

- 1. B, A, D, C
- 2. B, A, C, D
- 3. A, B, C, D
- 4. A, B, D, C

**Options :**

- 485584148653. 1
- 485584148654. 2
- 485584148655. 3
- 485584148656. 4

Question Number : 469 Question Id : 48558437164 Question Type : MCQ Option Shuffling : No Is Question Mandatory : No Calculator : None  
Response Time : N.A Think Time : N.A Minimum Instruction Time : 0

Correct Marks : 5 Wrong Marks : 1

**Question Key Details :**

Key	Value
Comprehension	MCQ

अंतर्राष्ट्रीय व्यापार के निम्नलिखित चरणों को घटित होने के क्रमानुसार व्यवस्थित कीजिए।

- A. रोमन साम्राज्य विखंडन
- B. रेशम मार्ग
- C. दास व्यापार
- D. वर्ल्ड ट्रेड आर्गनाइजेशन

नीचे दिए गए विकल्पों में से सही उत्तर का चयन कीजिए:

- 1. B, A, D, C
- 2. B, A, C, D
- 3. A, B, C, D
- 4. A, B, D, C

**Options :**

- 485584148653. 1
- 485584148654. 2
- 485584148655. 3
- 485584148656. 4

Question Number : 470 Question Id : 48558437165 Question Type : MCQ Option Shuffling : No Is Question Mandatory : No Calculator : None  
Response Time : N.A Think Time : N.A Minimum Instruction Time : 0

Correct Marks : 5 Wrong Marks : 1

**Question Key Details :**

Key	Value
Comprehension	MCQ

Arrange the following technological developments in chronological order.

- A. Information and Computers
- B. Development of Agriculture
- C. Sanitation and Medical
- D. Industrial Development

Choose the correct answer from the options given below:

- 1. D, B, A, C
- 2. D, B, C, A
- 3. B, D, A, C
- 4. B, D, C, A

**Options :**

- 485584148657. 1
- 485584148658. 2
- 485584148659. 3
- 485584148660. 4

**Question Number : 470 Question Id : 48558437165 Question Type : MCQ Option Shuffling : No Is Question Mandatory : No Calculator : None Response Time : N.A Think Time : N.A Minimum Instruction Time : 0 Correct Marks : 5 Wrong Marks : 1**

**Question Key Details :**

Key	Value
Comprehension	MCQ

निम्नलिखित तकनीकी विकासों को कालक्रमानुसार व्यवस्थित कीजिए।

- A. सूचना तथा कंप्यूटर
- B. कृषि का विकास
- C. स्वच्छता तथा चिकित्सा
- D. औद्योगिक विकास

नीचे दिए गए विकल्पों में से सही उत्तर का चयन कीजिए:

- 1. D, B, A, C
- 2. D, B, C, A
- 3. B, D, A, C
- 4. B, D, C, A

**Options :**

- 485584148657. 1
- 485584148658. 2
- 485584148659. 3
- 485584148660. 4

**Question Number : 471 Question Id : 48558437166 Question Type : MCQ Option Shuffling : No Is Question Mandatory : No Calculator : None Response Time : N.A Think Time : N.A Minimum Instruction Time : 0 Correct Marks : 5 Wrong Marks : 1**

**Question Key Details :**

Key	Value
Comprehension	MCQ

Which of the following characteristics about shifting cultivation are correct.

- A. Shifting cultivation is widely practised in hot and dry climate region.
- B. The vegetation is usually cleared by fire.
- C. Ashes add to the fertility of the soil.
- D. Cultivation is done with very primitive tools.

Choose the correct answer from the options given below:

- 1. B, C, D only
- 2. A, B, C only
- 3. A, C, D only
- 4. A, B, D only

**Options :**

- 485584148661. 1
- 485584148662. 2
- 485584148663. 3
- 485584148664. 4

**Question Number : 471 Question Id : 48558437166 Question Type : MCQ Option Shuffling : No Is Question Mandatory : No Calculator : None Response Time : N.A Think Time : N.A Minimum Instruction Time : 0**

**Correct Marks : 5 Wrong Marks : 1**

**Question Key Details :**

Key	Value
Comprehension	MCQ

स्थानांतरित कृषि की कौनसी विशेषताएँ सही हैं।

- A. स्थानांतरित कृषि बड़े पैमाने पर उष्ण व शुष्क जलवायु क्षेत्रों में की जाती है।
- B. वनस्पति को प्रायः जला कर साफ किया जाता है।
- C. राख मृदा की उर्वरता को बढ़ाती है।
- D. खेती प्राचीन औजारों से की जाती है।

नीचे दिए गए विकल्पों में से सही उत्तर का चयन कीजिए:

- 1. केवल B, C, D
- 2. केवल A, B, C
- 3. केवल A, C, D
- 4. केवल A, B, D

**Options :**

- 485584148661. 1
- 485584148662. 2
- 485584148663. 3
- 485584148664. 4

**Question Number : 472 Question Id : 48558437167 Question Type : MCQ Option Shuffling : No Is Question Mandatory : No Calculator : None Response Time : N.A Think Time : N.A Minimum Instruction Time : 0**

**Correct Marks : 5 Wrong Marks : 1**

**Question Key Details :**

Key	Value
Comprehension	MCQ



Arrange the following approaches in chronological order.

- A. Spatial organisation
- B. Post modernism
- C. Exploration and description
- D. Areal differentiation

Choose the correct answer from the options given below:

- 1. D, C, A, B
- 2. D, C, B, A
- 3. C, D, A, B
- 4. C, D, B, A

Options :

- 485584148665. 1
- 485584148666. 2
- 485584148667. 3
- 485584148668. 4

Question Number : 472 Question Id : 48558437167 Question Type : MCQ Option Shuffling : No Is Question Mandatory : No Calculator : None  
Response Time : N.A Think Time : N.A Minimum Instruction Time : 0  
Correct Marks : 5 Wrong Marks : 1

Question Key Details :

Key	Value
Comprehension	MCQ

निम्नलिखित उपागमों को कालक्रमानुसार व्यवस्थित कीजिए:

- A. स्थानिक संगठन
- B. उत्तर-आधुनिकवाद
- C. अन्वेषण तथा विवरण
- D. क्षेत्रीय विभेदीकरण

नीचे दिए गए विकल्पों में से सही उत्तर का चयन कीजिए:

- 1. D, C, A, B
- 2. D, C, B, A
- 3. C, D, A, B
- 4. C, D, B, A

Options :

- 485584148665. 1
- 485584148666. 2
- 485584148667. 3
- 485584148668. 4

Question Number : 473 Question Id : 48558437168 Question Type : MCQ Option Shuffling : No Is Question Mandatory : No Calculator : None  
Response Time : N.A Think Time : N.A Minimum Instruction Time : 0

Correct Marks : 5 Wrong Marks : 1

Question Key Details :

Key	Value
Comprehension	MCQ

Identify the correct statements about Trans- Siberian Railway.

- A. Trans Siberian Railway runs between St. Petersburg to Vladivostok.
- B. It is the longest double tracked railway of the world.
- C. Perth and Sydney are important station on its route.
- D. It runs across Ob and Yenisec Rivers.

Choose the correct answer from the options given below:

- 1. A, B & C only
- 2. A, B & D only
- 3. A, C & D only
- 4. B, C & D only

**Options :**

- 485584148669. 1
- 485584148670. 2
- 485584148671. 3
- 485584148672. 4

**Question Number : 473 Question Id : 48558437168 Question Type : MCQ Option Shuffling : No Is Question Mandatory : No Calculator : None Response Time : N.A Think Time : N.A Minimum Instruction Time : 0 Correct Marks : 5 Wrong Marks : 1**

**Question Key Details :**

Key	Value
Comprehension	MCQ

ट्रांस-साइबेरियन रेलवे के बारे में सही कथनों को पहचानें।

- A. ट्रांस साइबेरियन रेलमार्ग सेन्ट पीटर्सबर्ग से व्लाडीवोस्तोक के बीच चलती है।
- B. यह विश्व की सबसे लंबी दोहरी पटरी रेल है।
- C. पर्थ तथा सिडनी इस मार्ग के प्रमुख स्टेशन है।
- D. यह ओब तथा येनीसी नदियों से गुजरती है।

नीचे दिए गए विकल्पों में से सही उत्तर का चयन कीजिए:

- 1. केवल A, B और C
- 2. केवल A, B और D
- 3. केवल A, C और D
- 4. केवल B, C और D

**Options :**

- 485584148669. 1
- 485584148670. 2
- 485584148671. 3
- 485584148672. 4

**Question Number : 474 Question Id : 48558437169 Question Type : MCQ Option Shuffling : No Is Question Mandatory : No Calculator : None Response Time : N.A Think Time : N.A Minimum Instruction Time : 0 Correct Marks : 5 Wrong Marks : 1**

**Question Key Details :**

Key	Value
Comprehension	MCQ

Match List I with List II

LIST I Pillar of Human Development		LIST II Characteristics	
A.	Equity	I.	Power to make choices
B.	Sustainability	II.	Equal access to opportunity
C.	Productivity	III.	Continuity in the availability
D.	Empowerment	IV.	Better work efficiency

Choose the correct answer from the options given below:

1. A-IV, B-III, C-I, D-II
2. A-IV, B-II, C-III, D-I
3. A-II, B-IV, C-I, D-III
4. A-II, B-III, C-IV, D-I

Options :

485584148673. 1  
485584148674. 2  
485584148675. 3  
485584148676. 4

Question Number : 474 Question Id : 48558437169 Question Type : MCQ Option Shuffling : No Is Question Mandatory : No Calculator : None  
Response Time : N.A Think Time : N.A Minimum Instruction Time : 0

Correct Marks : 5 Wrong Marks : 1

Question Key Details :

Key	Value
Comprehension	MCQ

सूची I का सूची II से मिलान कीजिए

सूची I मानव विकास के स्तंभ		सूची II विशेषता	
A.	समता	I.	चुनाव करने की शक्ति
B.	सततता	II.	अवसरों तक समान पहुँच
C.	उत्पादकता	III.	उपलब्धता में निरंतरता
D.	सशक्तिकरण	IV.	बेहतर कार्यक्षमता

निम्नलिखित विकल्पों में से सही उत्तर का चयन कीजिए :

1. A-IV, B-III, C-I, D-II
2. A-IV, B-II, C-III, D-I
3. A-II, B-IV, C-I, D-III
4. A-II, B-III, C-IV, D-I

Options :

485584148673. 1  
485584148674. 2  
485584148675. 3  
485584148676. 4

Question Number : 475 Question Id : 48558437170 Question Type : MCQ Option Shuffling : No Is Question Mandatory : No Calculator : None Response Time : N.A Think Time : N.A Minimum Instruction Time : 0

Correct Marks : 5 Wrong Marks : 1

Question Key Details :

Key	Value
Comprehension	MCQ

Match List I with List II

LIST I Sub- Fields of human geography		LIST II Interface	
A.	Gender Geography	I.	Economics
B.	Cultural Geography	II.	Psychology
C.	Behavioural Geography	III.	Sociology
D.	Marketing Geography	IV.	Anthropology

Choose the correct answer from the options given below:

1. A-II, B-I, C-III, D-IV
2. A-II, B-III, C-I, D-IV
3. A-III, B-IV, C-II, D-I
4. A-IV, B-II, C-I, D-III

Options :

485584148677. 1  
485584148678. 2  
485584148679. 3  
485584148680. 4

Question Number : 475 Question Id : 48558437170 Question Type : MCQ Option Shuffling : No Is Question Mandatory : No Calculator : None Response Time : N.A Think Time : N.A Minimum Instruction Time : 0

Correct Marks : 5 Wrong Marks : 1

Question Key Details :

Key	Value
Comprehension	MCQ

सूची I का सूची II से मिलान कीजिए

सूची I भूगोल के उपक्षेत्र	सूची II अंतराषट्ठ
A. लिंग भूगोल	I. अर्थशास्त्र
B. सांस्कृतिक भूगोल	II. मनोविज्ञान
C. व्यवहारवादी भूगोल	III. समाजशास्त्र
D. विपणन भूगोल	IV. मानवविज्ञान

निम्नलिखित विकल्पों में से सही उत्तर का चयन कीजिए :

1. A-II, B-I, C-III, D-IV
2. A-II, B-III, C-I, D-IV
3. A-III, B-IV, C-II, D-I
4. A-IV, B-II, C-I, D-III

Options :

485584148677. 1

485584148678. 2  
 485584148679. 3  
 485584148680. 4

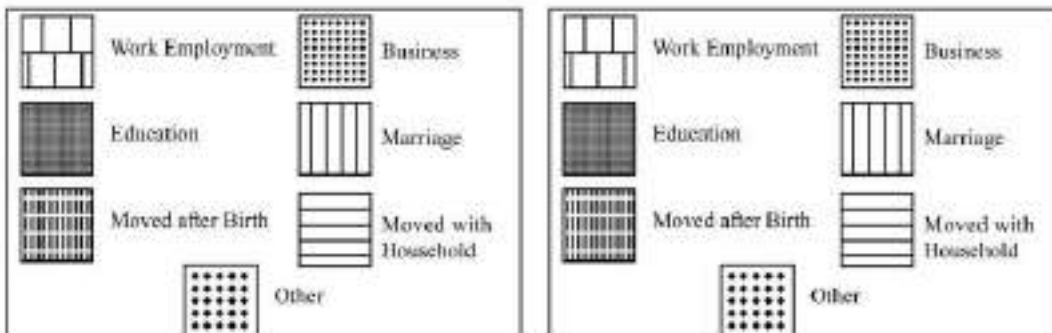
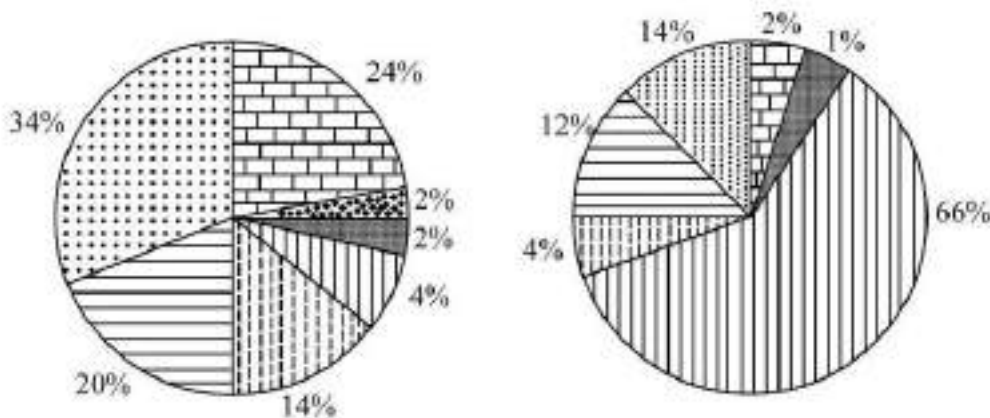
Sub-Section Number : 2  
 Sub-Section Id : 4855842815  
 Question Shuffling Allowed : No  
 Is Section Default? : null

Question Number : 476 Question Id : 48558437171 Question Type : MCQ Option Shuffling : No Is Question Mandatory : No Calculator : None  
 Response Time : N.A Think Time : N.A Minimum Instruction Time : 0  
 Correct Marks : 5 Wrong Marks : 1

**Question Key Details :**

Key	Value
Comprehension	Comp1

Study the given diagrams and answer the following question.



\_\_\_\_\_ is the leading cause of male migration in India.

1. Marriage
2. Business
3. Tourism
4. Work employment

**Options :**

485584148681. 1  
 485584148682. 2  
 485584148683. 3  
 485584148684. 4

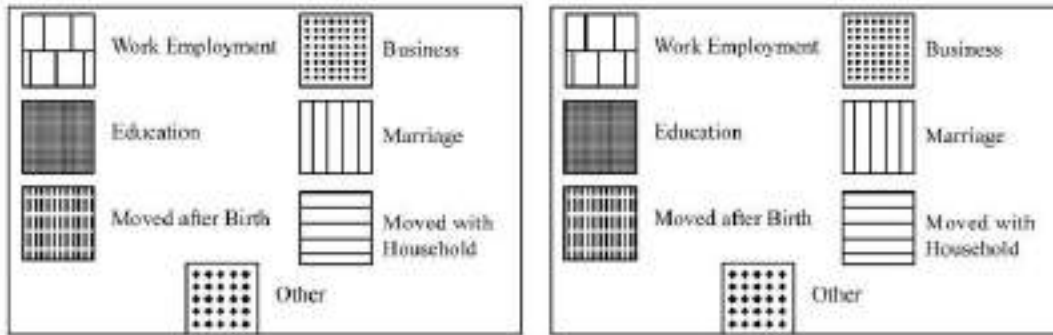
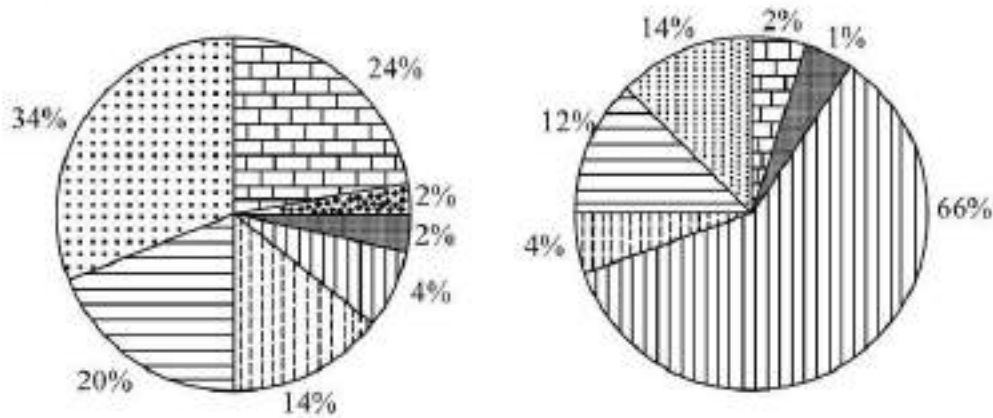
Question Number : 476 Question Id : 48558437171 Question Type : MCQ Option Shuffling : No Is Question Mandatory : No Calculator : None  
 Response Time : N.A Think Time : N.A Minimum Instruction Time : 0

Correct Marks : 5 Wrong Marks : 1

Question Key Details :

Key	Value
Comprehension	Comp1

दिए गए चित्रों को ध्यान से पढ़ें और प्रश्न का उत्तर दें।



भारत में पुरुष प्रवास का मुख्य कारण \_\_\_\_\_ है।

1. विवाह
2. व्यापार
3. पर्यटन
4. कार्य रोजगार

Options :

485584148681. 1  
 485584148682. 2  
 485584148683. 3  
 485584148684. 4

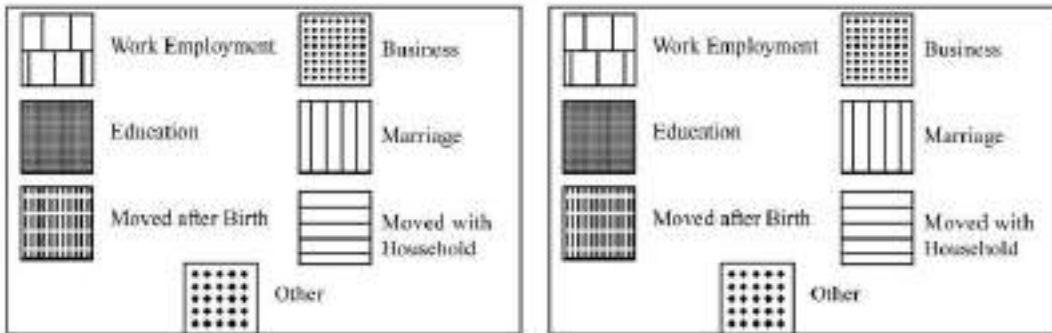
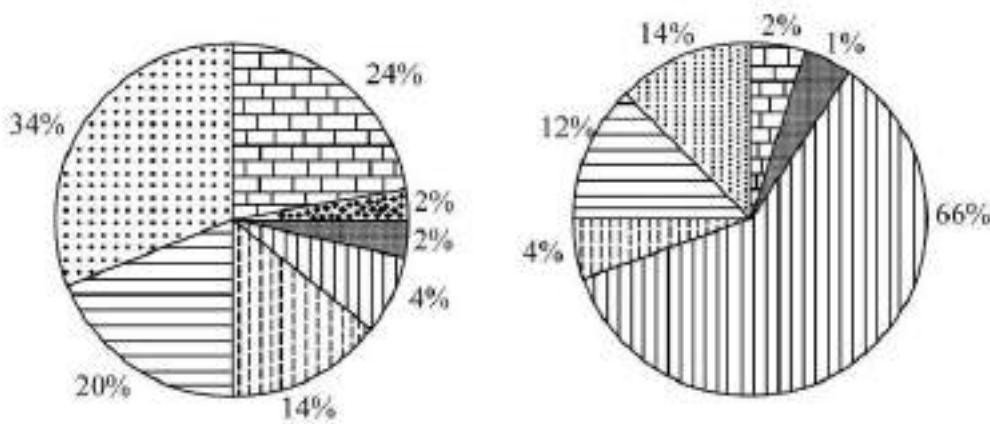
Question Number : 477 Question Id : 48558437172 Question Type : MCQ Option Shuffling : No Is Question Mandatory : No Calculator : None Response Time : N.A Think Time : N.A Minimum Instruction Time : 0

Correct Marks : 5 Wrong Marks : 1

Question Key Details :

Key	Value
Comprehension	Comp1

Study the given diagrams and answer the following question.



Leading cause of female migration in India is \_\_\_\_\_.

1. Education
2. Business
3. Marriage
4. Tourism

Options :

485584148685. 1
485584148686. 2
485584148687. 3
485584148688. 4

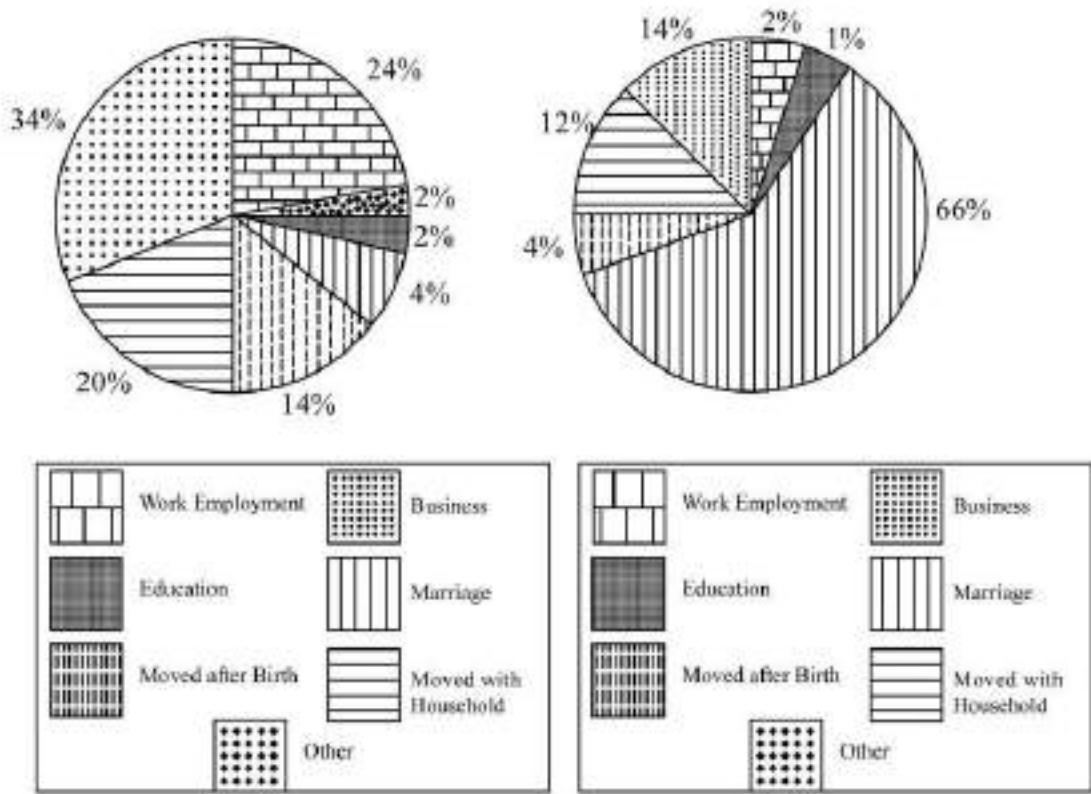
Question Number : 477 Question Id : 48558437172 Question Type : MCQ Option Shuffling : No Is Question Mandatory : No Calculator : None Response Time : N.A Think Time : N.A Minimum Instruction Time : 0

Correct Marks : 5 Wrong Marks : 1

Question Key Details :

Key	Value
Comprehension	Compl

दिए गए चित्रों को ध्यान से पढ़े और प्रश्न का उत्तर दें।



भारत में स्त्री प्रवास का मुख्य कारण \_\_\_\_\_ है।

1. शिक्षा
2. व्यापार
3. विवाह
4. पर्यटन

Options :

- 485584148685. 1
- 485584148686. 2
- 485584148687. 3
- 485584148688. 4

Question Number : 478 Question Id : 48558437173 Question Type : MCQ Option Shuffling : No Is Question Mandatory : No Calculator : None Response Time : N.A Think Time : N.A Minimum Instruction Time : 0

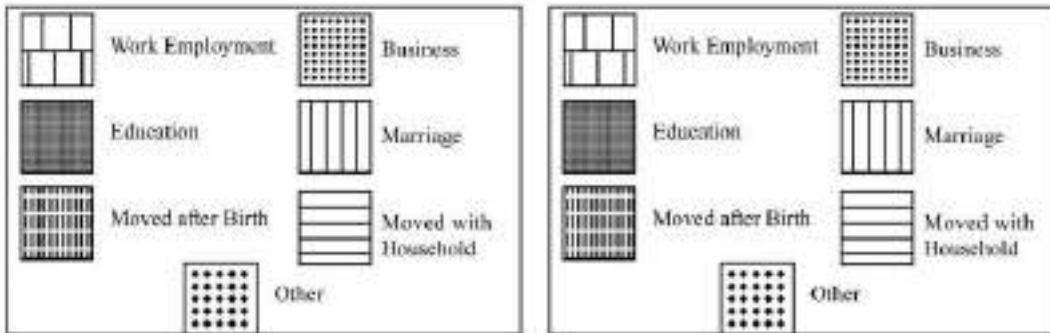
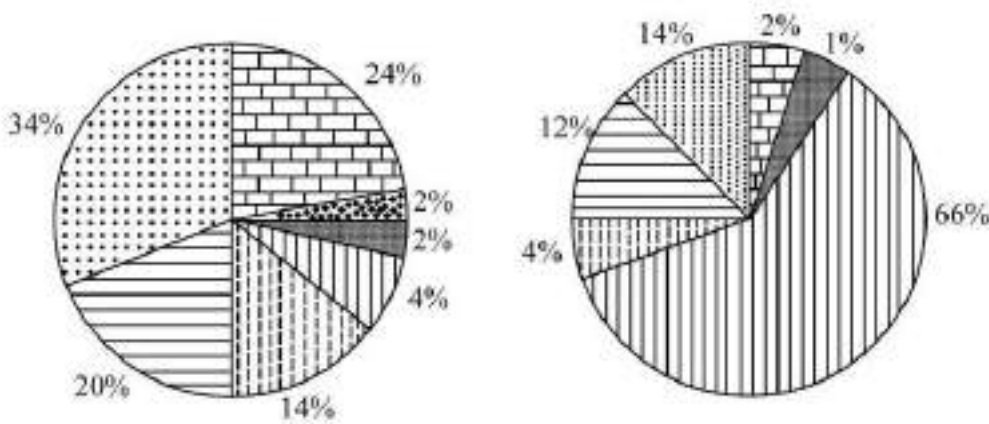
Correct Marks : 5 Wrong Marks : 1

Question Key Details :

Key	Value
Comprehension	Comp1



Study the given diagrams and answer the following question.



\_\_\_\_\_ is used to represent the relative share of reasons of migration.

1. Percentage bar diagram
2. Pie diagram
3. Proportional circle diagram
4. Flow diagram

**Options :**

- 485584148689. 1
- 485584148690. 2
- 485584148691. 3
- 485584148692. 4

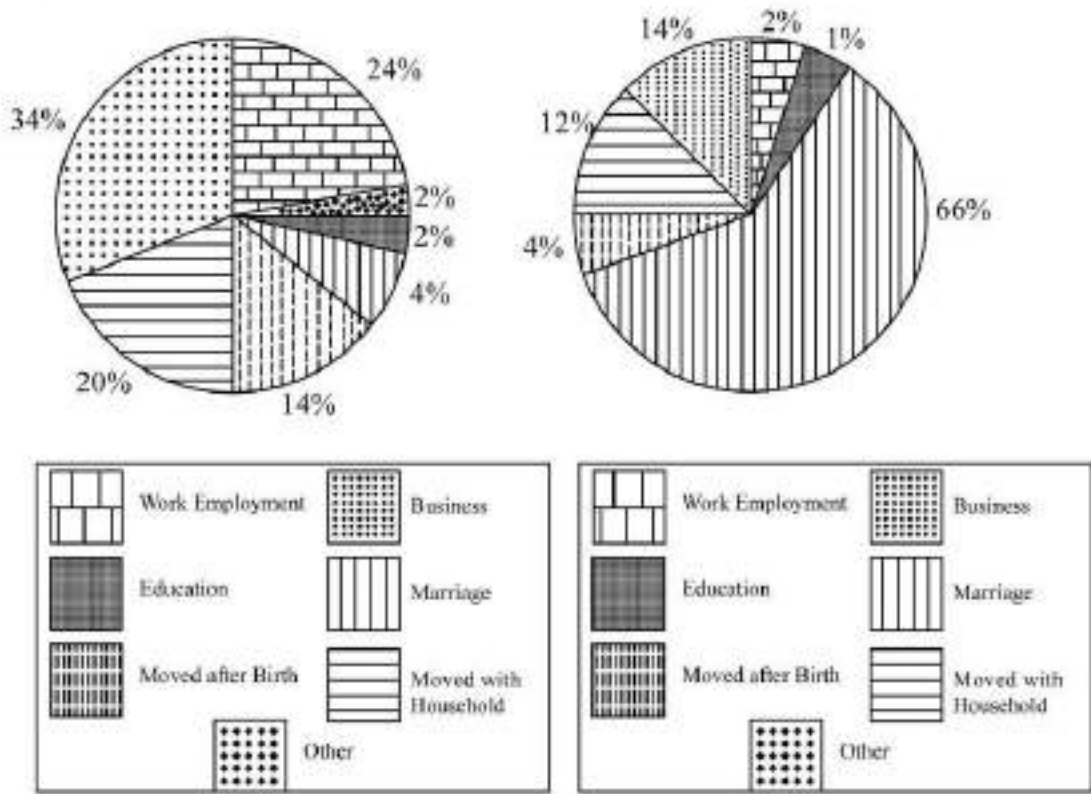
**Question Number : 478 Question Id : 48558437173 Question Type : MCQ Option Shuffling : No Is Question Mandatory : No Calculator : None Response Time : N.A Think Time : N.A Minimum Instruction Time : 0**

**Correct Marks : 5 Wrong Marks : 1**

**Question Key Details :**

Key	Value
Comprehension	Compl

दिए गए चित्रों को ध्यान से पढ़े और प्रश्न का उत्तर दें।



\_\_\_\_\_ प्रवास के कारणों का सापेक्षिक भाग दर्शाता है।

1. प्रतिशत दंड आरेख
2. वृत्त चार्ट
3. आनुपातिक वृत्त चित्र
4. प्रवाह रेखाचित्र

Options :

- 485584148689. 1
- 485584148690. 2
- 485584148691. 3
- 485584148692. 4

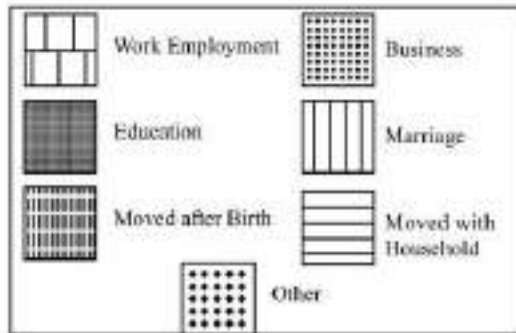
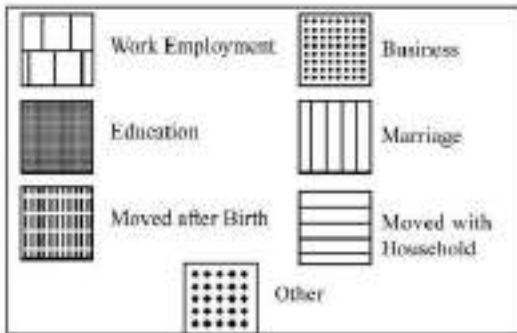
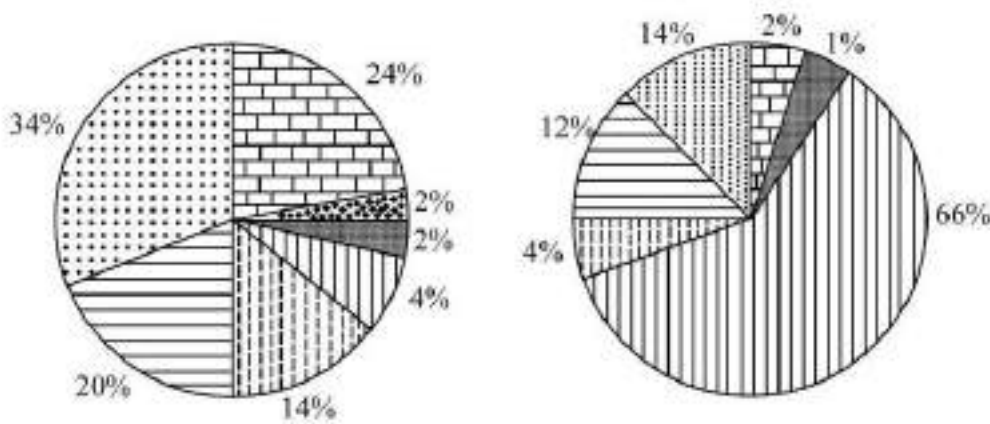
Question Number : 479 Question Id : 48558437174 Question Type : MCQ Option Shuffling : No Is Question Mandatory : No Calculator : None Response Time : N.A Think Time : N.A Minimum Instruction Time : 0

Correct Marks : 5 Wrong Marks : 1

Question Key Details :

Key	Value
Comprehension	Compl

Study the given diagrams and answer the following question.



\_\_\_\_\_ percentage is the share of male migration due to education reason.

- 1. 2
- 2. 34
- 3. 1
- 4. 14

**Options :**

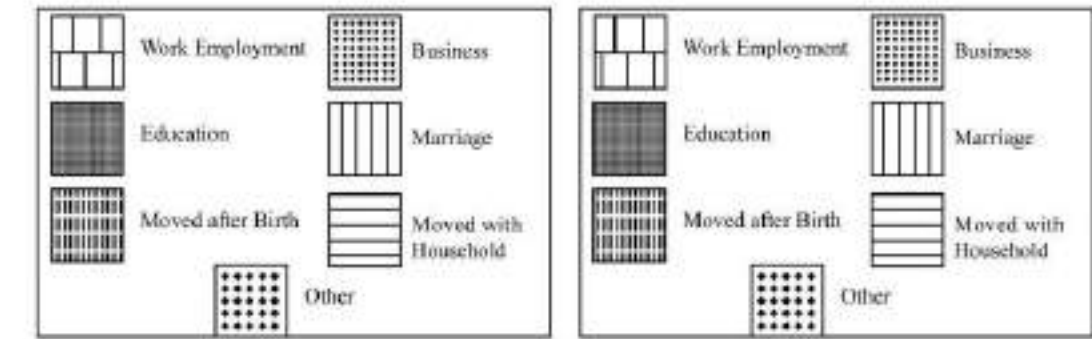
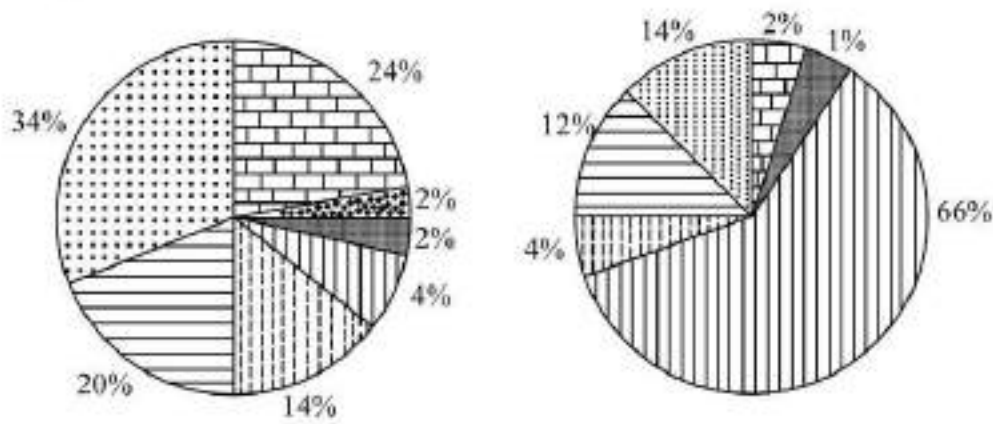
- 485584148693. 1
- 485584148694. 2
- 485584148695. 3
- 485584148696. 4

Question Number : 479 Question Id : 48558437174 Question Type : MCQ Option Shuffling : No Is Question Mandatory : No Calculator : None Response Time : N.A Think Time : N.A Minimum Instruction Time : 0 Correct Marks : 5 Wrong Marks : 1

**Question Key Details :**

Key	Value
Comprehension	Comp1

दिए गए चित्रों को ध्यान से पढ़े और प्रश्न का उत्तर दें।



शिक्षा के कारण पुरुष प्रवास \_\_\_\_\_ प्रतिशत है।

1. 2
2. 34
3. 1
4. 14

Options :

485584148693. 1
485584148694. 2
485584148695. 3
485584148696. 4

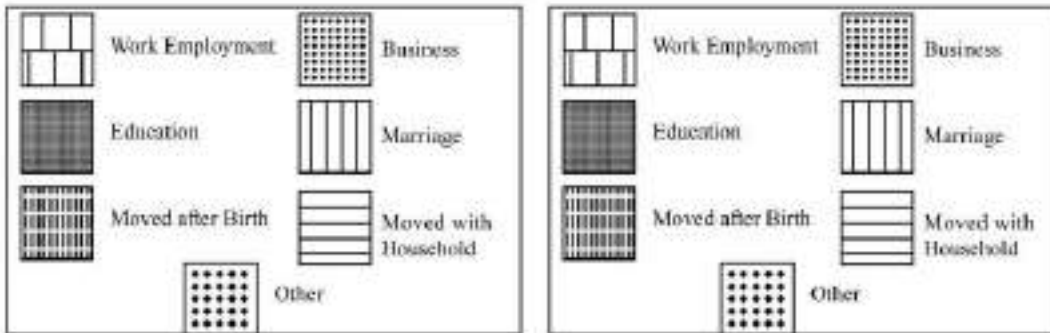
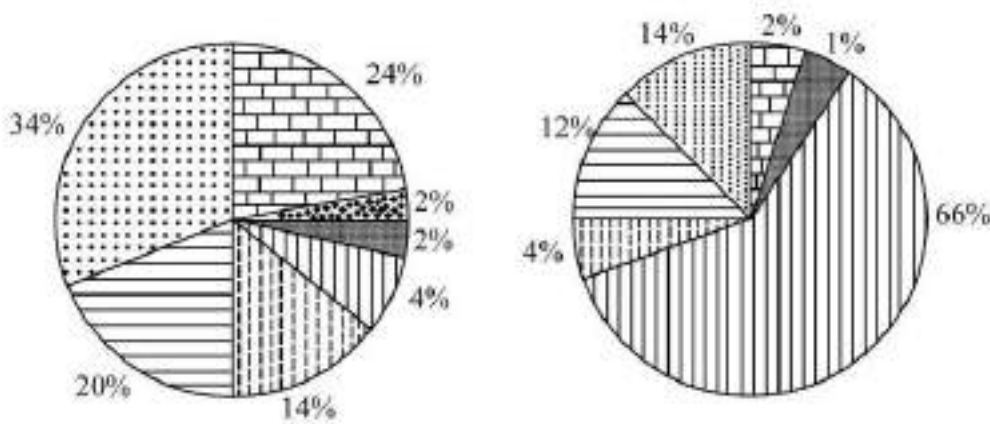
Question Number : 480 Question Id : 48558437175 Question Type : MCQ Option Shuffling : No Is Question Mandatory : No Calculator : None Response Time : N.A Think Time : N.A Minimum Instruction Time : 0

Correct Marks : 5 Wrong Marks : 1

Question Key Details :

Key	Value
Comprehension	Comp1

Study the given diagrams and answer the following question.



The percentage share for different seasons of female migration is calculated by dividing number of associated female migrants with \_\_\_\_\_.

1. Total population of India
2. Total female population of India
3. Total female migrants of India
4. Total migrants of India

Options :

- 485584148697. 1
- 485584148698. 2
- 485584148699. 3
- 485584148700. 4

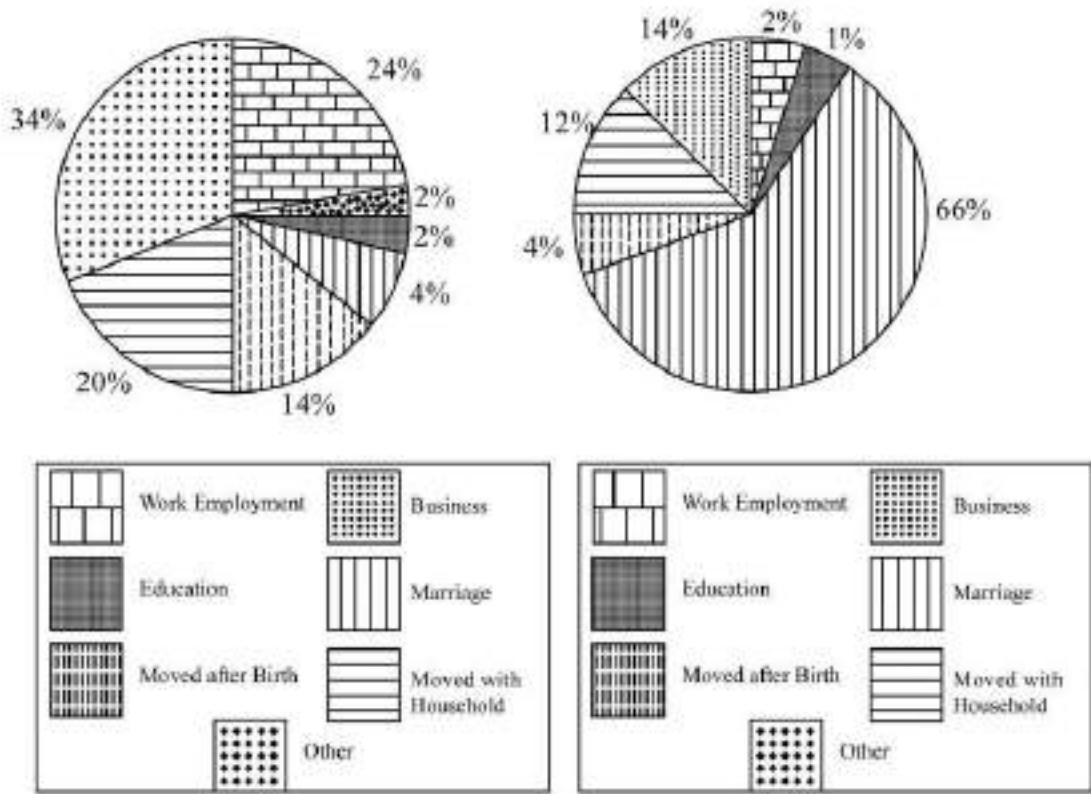
Question Number : 480 Question Id : 48558437175 Question Type : MCQ Option Shuffling : No Is Question Mandatory : No Calculator : None Response Time : N.A Think Time : N.A Minimum Instruction Time : 0

Correct Marks : 5 Wrong Marks : 1

Question Key Details :

Key	Value
Comprehension	Comp1

दिए गए चित्रों को ध्यान से पढ़ें और प्रश्न का उत्तर दें।



विभिन्न कारणों से स्त्री प्रवास के प्रतिशत भाग की गणना संबंधित प्रवासी महिलाओं की संख्या को \_\_\_\_\_ से भाग देकर की जाती है।

1. भारत की कुल जनसंख्या
2. भारत की कुल स्त्री जनसंख्या
3. भारत की कुल स्त्री प्रवासी
4. भारत के कुल प्रवासी

**Options :**

- 485584148697. 1
- 485584148698. 2
- 485584148699. 3
- 485584148700. 4

**Sub-Section Number :**

3

**Sub-Section Id :**

4855842816

**Question Shuffling Allowed :**

No

**Is Section Default? :**

null

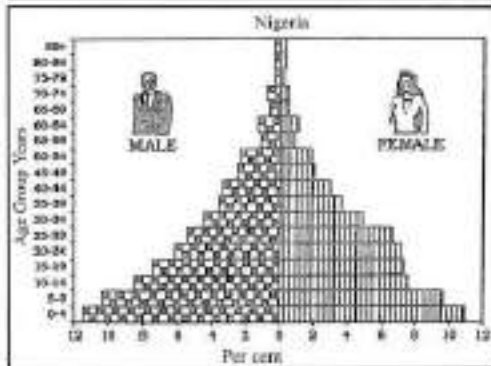
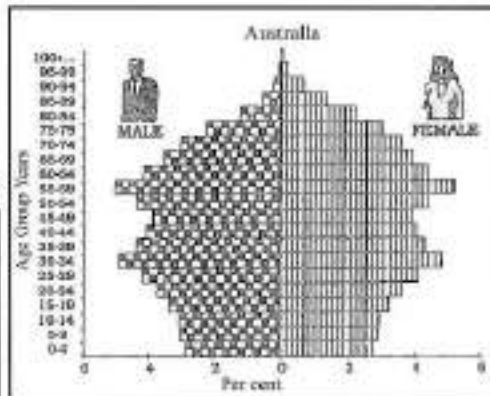
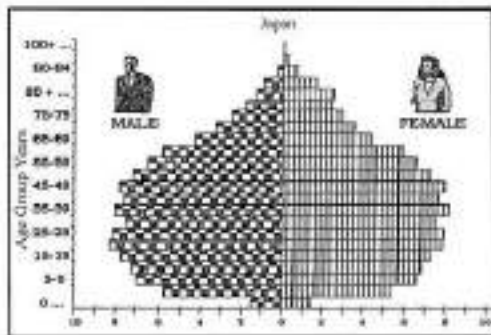
**Question Number :** 481 **Question Id :** 48558437176 **Question Type :** MCQ **Option Shuffling :** No **Is Question Mandatory :** No **Calculator :** None **Response Time :** N.A **Think Time :** N.A **Minimum Instruction Time :** 0

**Correct Marks :** 5 **Wrong Marks :** 1

**Question Key Details :**

Key	Value
Comprehension	Comp2

Study the given diagram and answer the following question.



Identify the characteristic of Australian population from the following.

1. Near constant
2. Growing
3. Growing at high rate
4. Medium life expectancy

Options :

- 485584148701. 1
- 485584148702. 2
- 485584148703. 3
- 485584148704. 4

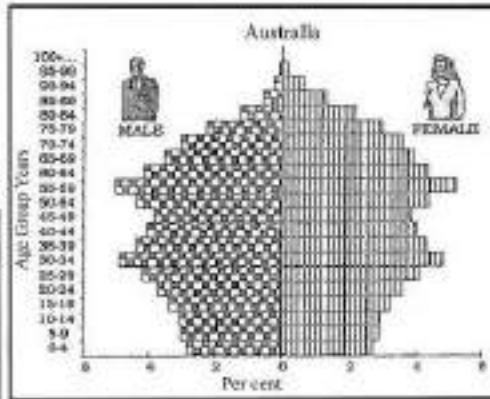
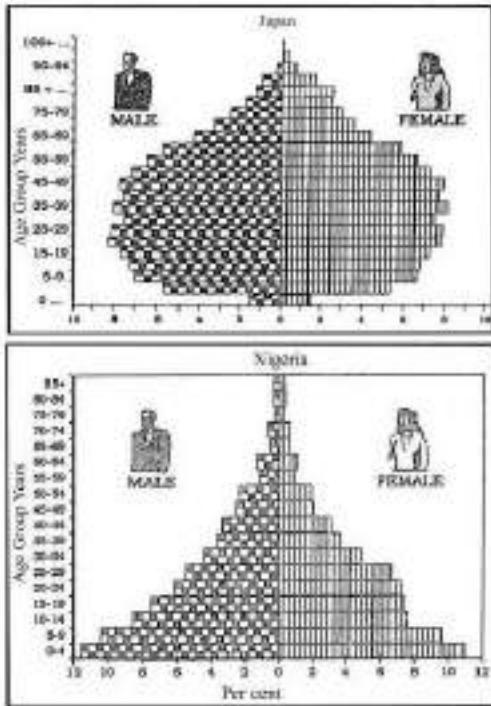
Question Number : 481 Question Id : 48558437176 Question Type : MCQ Option Shuffling : No Is Question Mandatory : No Calculator : None Response Time : N.A Think Time : N.A Minimum Instruction Time : 0

Correct Marks : 5 Wrong Marks : 1

Question Key Details :

Key	Value
Comprehension	Comp2

दिए गए चित्रों को ध्यान से पढ़ें और प्रश्न का उत्तर दें।



निम्नलिखित में से आस्ट्रेलियाई जनसंख्या की विशेषता को पहचानिए।

1. लगभग स्थिर
2. बढ़ती हुई
3. उच्च दर से बढ़ती हुई
4. मध्यम जीवन प्रत्याशा

Options :

485584148701. 1
485584148702. 2
485584148703. 3
485584148704. 4

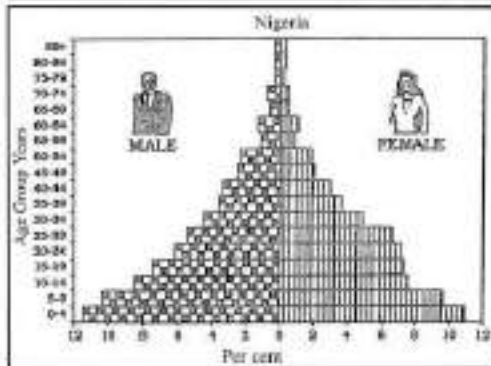
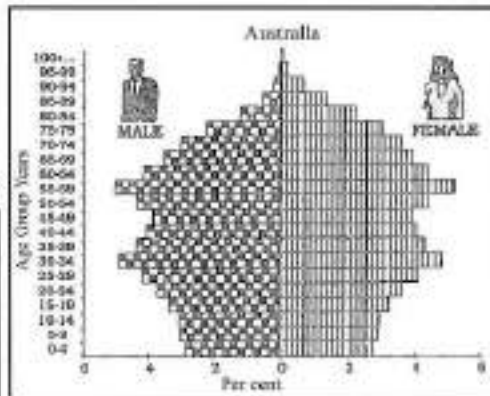
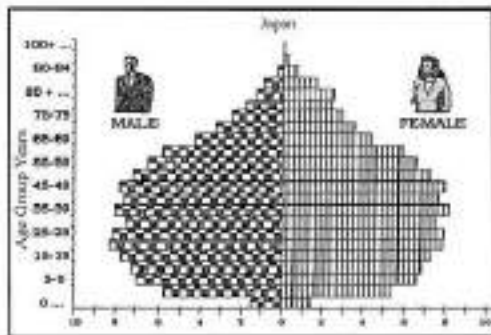
Question Number : 482 Question Id : 48558437177 Question Type : MCQ Option Shuffling : No Is Question Mandatory : No Calculator : None  
 Response Time : N.A Think Time : N.A Minimum Instruction Time : 0  
 Correct Marks : 5 Wrong Marks : 1

Question Key Details :

Key	Value
Comprehension	Comp2



Study the given diagram and answer the following question.



Identify the characteristics of Nigerian population from the following.

1. Moderate birth rate and low death rate
2. Large population in lower age groups due to high birth rate
3. Old age population is high
4. Large population in lower age groups due to low birth rate

Options :

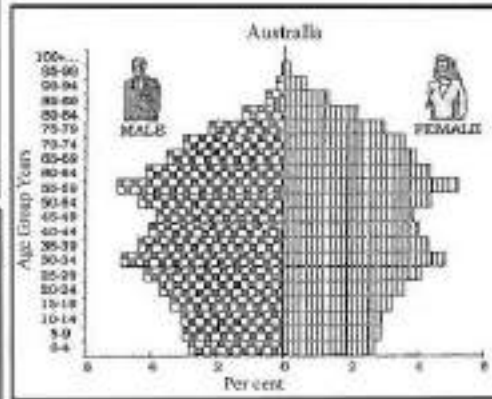
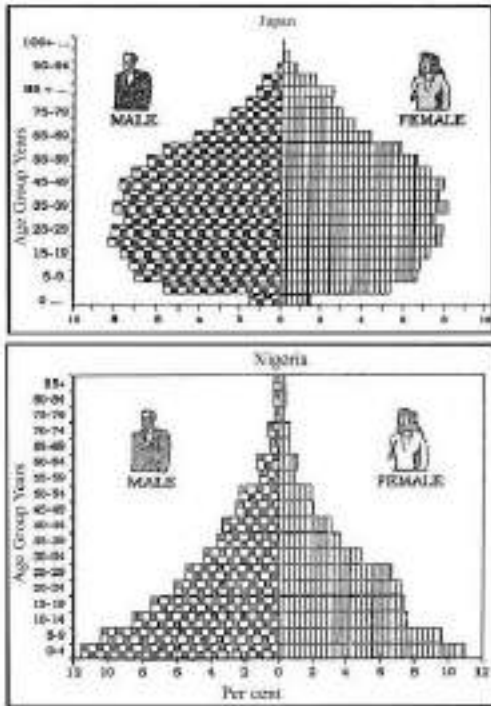
- 485584148705. 1
- 485584148706. 2
- 485584148707. 3
- 485584148708. 4

Question Number : 482 Question Id : 48558437177 Question Type : MCQ Option Shuffling : No Is Question Mandatory : No Calculator : None  
 Response Time : N.A Think Time : N.A Minimum Instruction Time : 0  
 Correct Marks : 5 Wrong Marks : 1

Question Key Details :

Key	Value
Comprehension	Comp2

दिए गए चित्रों को ध्यान से पढ़ें और प्रश्न का उत्तर दें।



निम्नलिखित से नाइजीरियाई जनसंख्या की विशेषता को पहचानिए।

1. मध्यम जन्म दर तथा निम्न मृत्यु दर
2. उच्च जन्म दर के कारण निम्न आयु वर्गों में विशाल जनसंख्या
3. वृद्ध जनसंख्या अधिक है
4. निम्न जन्मदर के कारण निम्न आयु वर्गों में विशाल जनसंख्या

Options :

485584148705. 1
485584148706. 2
485584148707. 3
485584148708. 4

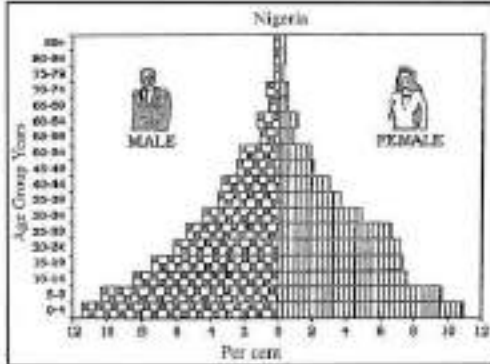
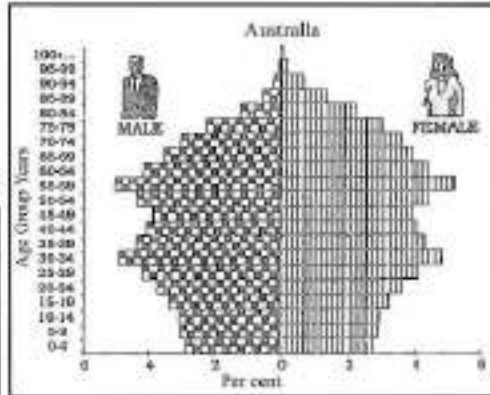
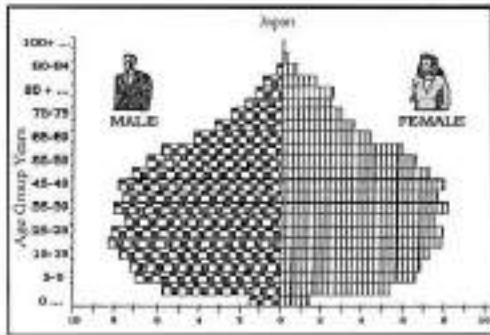
Question Number : 483 Question Id : 48558437178 Question Type : MCQ Option Shuffling : No Is Question Mandatory : No Calculator : None Response Time : N.A Think Time : N.A Minimum Instruction Time : 0

Correct Marks : 5 Wrong Marks : 1

Question Key Details :

Key	Value
Comprehension	Comp2

Study the given diagram and answer the following question.



The age sex pyramid of Japan has a narrow base and tapered top because of \_\_\_\_\_

1. High birth rate and low death rate
2. Low birth rate and high death rate
3. Low birth rate and low death rate
4. High birth rate and high death rate

Options :

485584148709. 1

485584148710. 2

485584148711. 3

485584148712. 4

Question Number : 483 Question Id : 48558437178 Question Type : MCQ Option Shuffling : No Is Question Mandatory : No Calculator : None

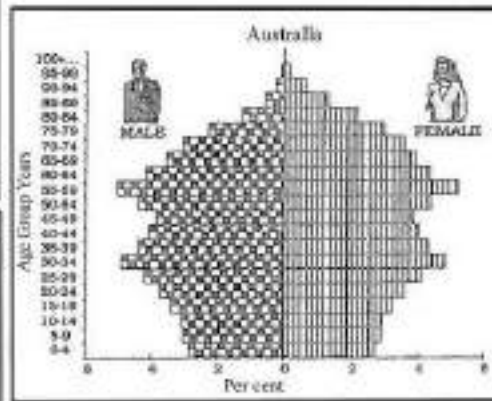
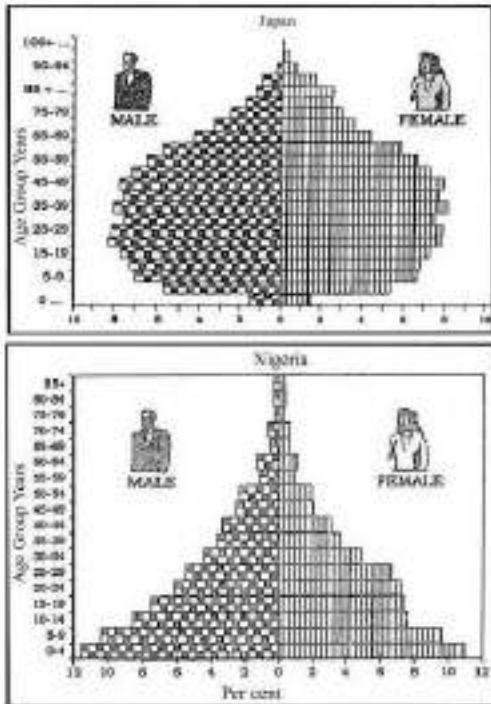
Response Time : N.A Think Time : N.A Minimum Instruction Time : 0

Correct Marks : 5 Wrong Marks : 1

Question Key Details :

Key	Value
Comprehension	Comp2

दिए गए चित्रों को ध्यान से पढ़ें और प्रश्न का उत्तर दें।



\_\_\_\_\_ के फलस्वरूप जापान के आयु-लिंग पिरामिड का संकीर्ण आधार तथा शृंङाकार शीर्ष है।

1. उच्च जन्म दर तथा निम्न मृत्यु दर
2. निम्न जन्म दर तथा उच्च मृत्यु दर
3. निम्न जन्म दर तथा निम्न मृत्यु दर
4. उच्च जन्म दर तथा उच्च मृत्यु दर

Options :

485584148709. 1  
 485584148710. 2  
 485584148711. 3  
 485584148712. 4

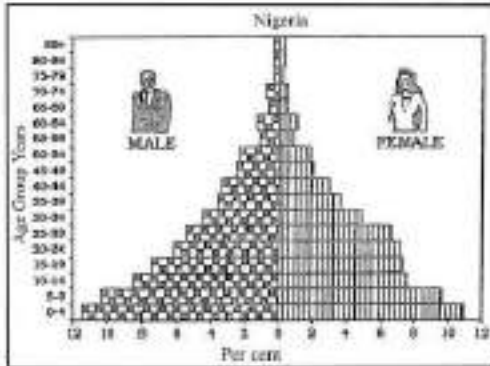
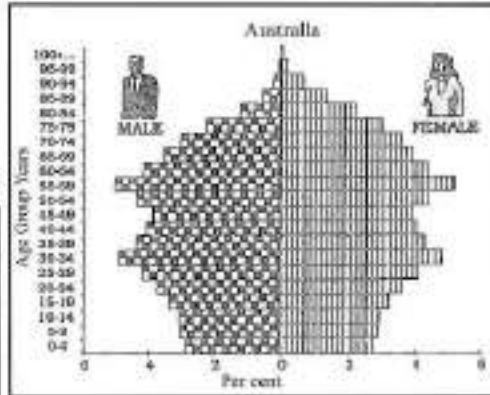
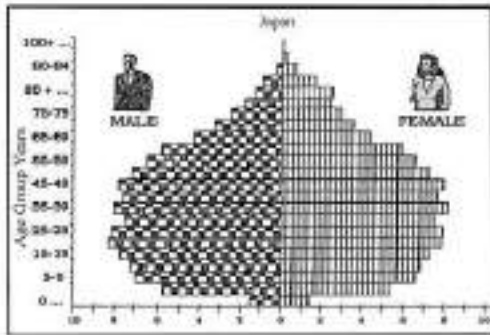
Question Number : 484 Question Id : 48558437179 Question Type : MCQ Option Shuffling : No Is Question Mandatory : No Calculator : None  
 Response Time : N.A Think Time : N.A Minimum Instruction Time : 0

Correct Marks : 5 Wrong Marks : 1

Question Key Details :

Key	Value
Comprehension	Comp2

Study the given diagram and answer the following question.



Which one of the following shows the male and female population approximate percentage of Australia in 30 to 34 years of age groups?

1. Male 3% and female 3%
2. Male 4% and female 4%
3. Male 5% and female 5%
4. Male 6% and female 6%

Options :

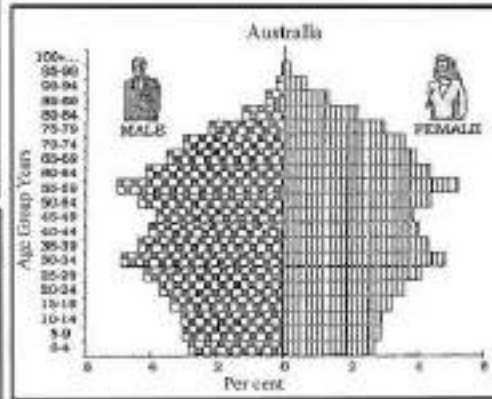
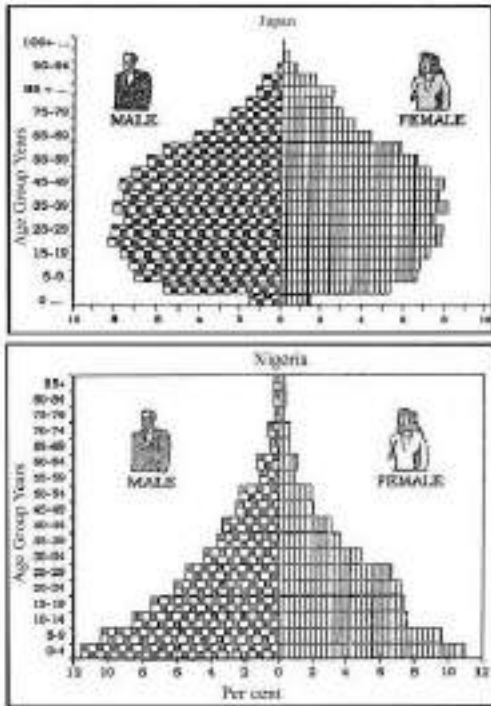
485584148713. 1  
 485584148714. 2  
 485584148715. 3  
 485584148716. 4

Question Number : 484 Question Id : 48558437179 Question Type : MCQ Option Shuffling : No Is Question Mandatory : No Calculator : None  
 Response Time : N.A Think Time : N.A Minimum Instruction Time : 0  
 Correct Marks : 5 Wrong Marks : 1

Question Key Details :

Key	Value
Comprehension	Comp2

दिए गए चित्रों को ध्यान से पढ़ें और प्रश्न का उत्तर दें।



निम्न में से कौनसा आस्ट्रेलिया के 30 से 34 वर्ष के आयुवर्ग का पुरुष तथा स्त्री जनसंख्या का लगभग अनुपात दर्शाता है?

1. पुरुष 3% और स्त्री 3%
2. पुरुष 4% और स्त्री 4%
3. पुरुष 5% और स्त्री 5%
4. पुरुष 6% और स्त्री 6%

Options :

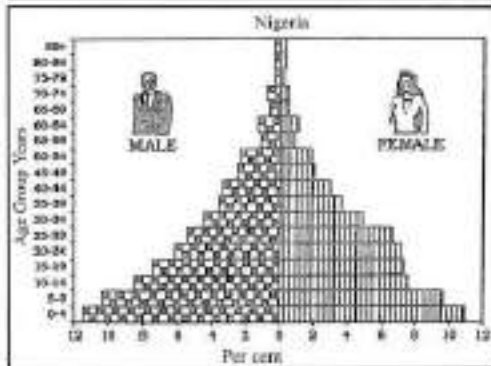
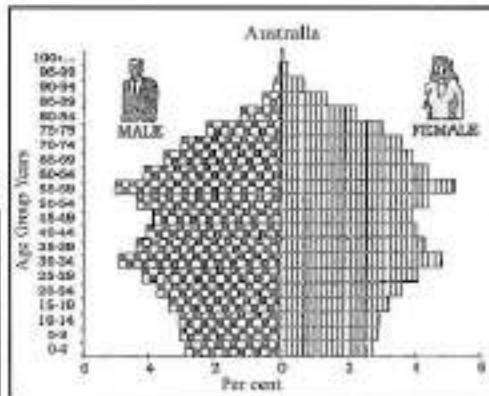
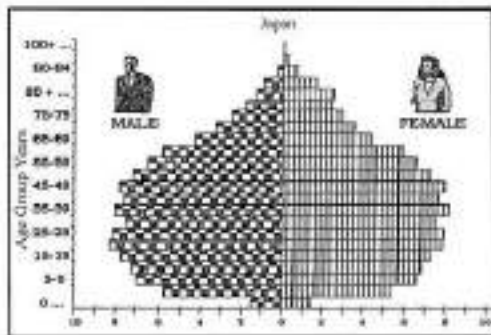
485584148713. 1  
 485584148714. 2  
 485584148715. 3  
 485584148716. 4

Question Number : 485 Question Id : 48558437180 Question Type : MCQ Option Shuffling : No Is Question Mandatory : No Calculator : None  
 Response Time : N.A Think Time : N.A Minimum Instruction Time : 0  
 Correct Marks : 5 Wrong Marks : 1

Question Key Details :

Key	Value
Comprehension	Comp2

Study the given diagram and answer the following question.



Identify the correct statement about Japan and Australia

1. Both countries have large population in lower age groups due to high death rates.
2. Both countries have large working population.
3. Both countries have triangular shaped, age-sex pyramid.
4. These have larger population in lower age groups due to high birth rates.

Options :

- 485584148717. 1
- 485584148718. 2
- 485584148719. 3
- 485584148720. 4

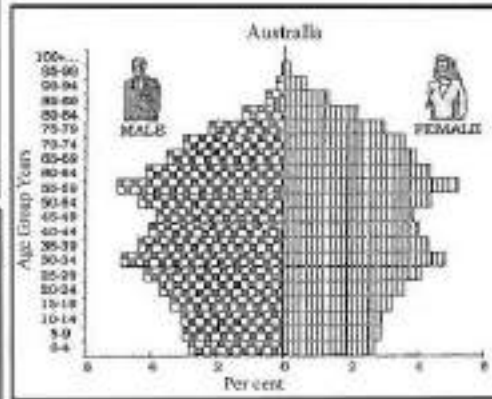
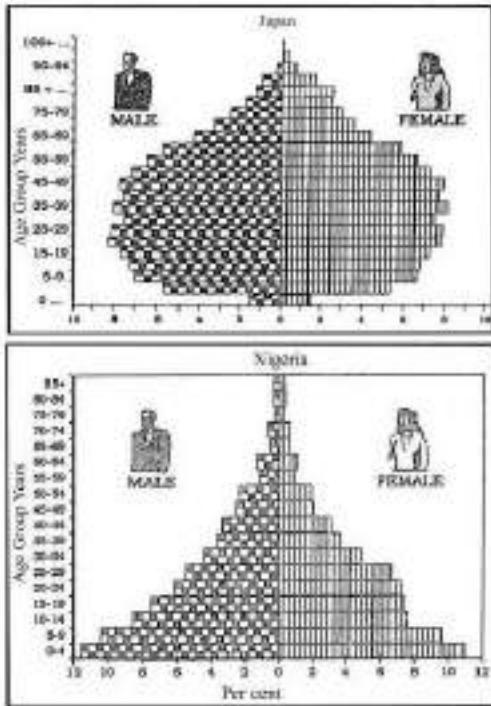
Question Number : 485 Question Id : 48558437180 Question Type : MCQ Option Shuffling : No Is Question Mandatory : No Calculator : None  
Response Time : N.A Think Time : N.A Minimum Instruction Time : 0

Correct Marks : 5 Wrong Marks : 1

Question Key Details :

Key	Value
Comprehension	Comp2

दिए गए चित्रों को ध्यान से पढ़ें और प्रश्न का उत्तर दें।



जापान तथा आस्ट्रेलिया के बारे में सही कथन पहचानिए

1. दोनों देशों की उच्च मृत्यु दर के कारण निम्न आयु वर्ग में बड़ी जनसंख्या है
2. दोनों देशों के पास बड़ी कार्यशील जनसंख्या है
3. दोनों देशों का त्रिभुजकार आयु-लिंग पिरामिड है
4. इनमें उच्च जन्म दर के कारण निम्न आयुवर्ग में बड़ी जनसंख्या है

Options :

485584148717. 1  
 485584148718. 2  
 485584148719. 3  
 485584148720. 4

## History

Group Number :

10

Group Id :

485584859

Group Maximum Duration :

45

Group Minimum Duration :

45

Show Attended Group? :

No

Edit Attended Group? :

No

Break time :

0

Group Marks :

200

Is this Group for Examiner? :

No

Examiner permission :

Cant View

Show Progress Bar? :

No

## History

Section Id :

485584989



Section Number : 1  
Section type : Online  
Mandatory or Optional : Mandatory  
Number of Questions : 50  
Number of Questions to be attempted : 40  
Section Marks : 200  
Enable Mark as Answered Mark for Review and Clear Response : Yes  
Maximum Instruction Time : 0  
Sub-Section Number : 1  
Sub-Section Id : 4855842817  
Question Shuffling Allowed : Yes  
Is Section Default? : null

Question Number : 486 Question Id : 48558437181 Question Type : MCQ Option Shuffling : No Is Question Mandatory : No Calculator : None  
Response Time : N.A Think Time : N.A Minimum Instruction Time : 0  
Correct Marks : 5 Wrong Marks : 1  
Question Key Details :

Key	Value
Comprehension	MCQ

Which bird is referred as 'Haja-bird' in the mesopotamian myth about Meluhha?

1. Peacock
2. Parrot
3. Sparrow
4. Crow

Options :  
485584148721. 1  
485584148722. 2  
485584148723. 3  
485584148724. 4

Question Number : 486 Question Id : 48558437181 Question Type : MCQ Option Shuffling : No Is Question Mandatory : No Calculator : None  
Response Time : N.A Think Time : N.A Minimum Instruction Time : 0  
Correct Marks : 5 Wrong Marks : 1  
Question Key Details :

Key	Value
Comprehension	MCQ

मेलुहा के विषय में मैसेपोटामिया के मिथक में किस पक्षी को 'हाजा - पक्षी' के नाम से संदर्भित किया जाता है ?

1. मोर
2. तोता
3. गोरिया
4. कौआ

Options :  
485584148721. 1  
485584148722. 2  
485584148723. 3  
485584148724. 4

Question Number : 487 Question Id : 48558437182 Question Type : MCQ Option Shuffling : No Is Question Mandatory : No Calculator : None  
Response Time : N.A Think Time : N.A Minimum Instruction Time : 0  
Correct Marks : 5 Wrong Marks : 1  
Question Key Details :

Key	Value
Comprehension	MCQ

A distinctive type of vessel, a large Harappan jar coated with a thick layer of black clay, has been found at which site ?

1. Bahrain
2. Oman
3. Dilmun
4. Magan

**Options :**

485584148725. 1

485584148726. 2

485584148727. 3

485584148728. 4

**Question Number : 487 Question Id : 48558437182 Question Type : MCQ Option Shuffling : No Is Question Mandatory : No Calculator : None Response Time : N.A Think Time : N.A Minimum Instruction Time : 0**

**Correct Marks : 5 Wrong Marks : 1**

**Question Key Details :**

Key	Value
Comprehension	MCQ

किस स्थल पर एक विशिष्ट प्रकार का पात्र, हड़प्पा का बड़ा मर्तबान जो कि काली मिट्टी की मोटी परत वाला है, पाया गया है ?

1. बहरीन
2. ओमान
3. दिमलन
4. मगन

**Options :**

485584148725. 1

485584148726. 2

485584148727. 3

485584148728. 4

**Question Number : 488 Question Id : 48558437183 Question Type : MCQ Option Shuffling : No Is Question Mandatory : No Calculator : None Response Time : N.A Think Time : N.A Minimum Instruction Time : 0**

**Correct Marks : 5 Wrong Marks : 1**

**Question Key Details :**

Key	Value
Comprehension	MCQ

The god 'Rudra' mentioned in the Rigveda is a name used for which god in later Puranic traditions?

1. Indra
2. Vishnu
3. Shiva
4. Brahma

**Options :**

485584148729. 1

485584148730. 2  
485584148731. 3  
485584148732. 4

Question Number : 488 Question Id : 48558437183 Question Type : MCQ Option Shuffling : No Is Question Mandatory : No Calculator : None  
Response Time : N.A Think Time : N.A Minimum Instruction Time : 0  
Correct Marks : 5 Wrong Marks : 1

Question Key Details :

Key	Value
Comprehension	MCQ

ऋग्वेद में उल्लेखित नाम 'रुद्र' बाद में पुराणिक परम्पराओं में किस भगवान के लिए उपयोग में लाया गया ?

1. इंद्र
2. विष्णु
3. शिव
4. ब्रह्मा

Options :

485584148729. 1  
485584148730. 2  
485584148731. 3  
485584148732. 4

Question Number : 489 Question Id : 48558437184 Question Type : MCQ Option Shuffling : No Is Question Mandatory : No Calculator : None  
Response Time : N.A Think Time : N.A Minimum Instruction Time : 0  
Correct Marks : 5 Wrong Marks : 1

Question Key Details :

Key	Value
Comprehension	MCQ

Mesopotamian texts refer to 'Meluhha' as a land of:

1. Pottery-makers
2. Bead-makers
3. Cultivators
4. Seafarers

Options :

485584148733. 1  
485584148734. 2  
485584148735. 3  
485584148736. 4

Question Number : 489 Question Id : 48558437184 Question Type : MCQ Option Shuffling : No Is Question Mandatory : No Calculator : None  
Response Time : N.A Think Time : N.A Minimum Instruction Time : 0  
Correct Marks : 5 Wrong Marks : 1

Question Key Details :

Key	Value
Comprehension	MCQ

मेसोपोटामियाई ग्रन्थ 'मेलुहा' को किसकी धरती के नाम से संबोधित करते हैं?

1. मिट्टी के बर्तन बनाने वाले
2. मन्के बनाने वाले
3. कृषक
4. नाविकों

**Options :**

485584148733. 1  
485584148734. 2  
485584148735. 3  
485584148736. 4

**Question Number : 490 Question Id : 48558437185 Question Type : MCQ Option Shuffling : No Is Question Mandatory : No Calculator : None Response Time : N.A Think Time : N.A Minimum Instruction Time : 0**

**Correct Marks : 5 Wrong Marks : 1**

**Question Key Details :**

Key	Value
Comprehension	MCQ

Identify the important mature Harappa sites present in Gujarat.

- A. Rangpur
- B. Lothal
- C. Banawali
- D. Dholavira
- E. Manda

Choose the **correct** answer from the options given below:

1. A, B, C only
2. B, C, D only
3. C, D, E only
4. A, B, D only

**Options :**

485584148737. 1  
485584148738. 2  
485584148739. 3  
485584148740. 4

**Question Number : 490 Question Id : 48558437185 Question Type : MCQ Option Shuffling : No Is Question Mandatory : No Calculator : None Response Time : N.A Think Time : N.A Minimum Instruction Time : 0**

**Correct Marks : 5 Wrong Marks : 1**

**Question Key Details :**

Key	Value
Comprehension	MCQ

गुजरात में विकसित हड़प्पा के महत्वपूर्ण पुरास्थल कौन-से हैं?

- A. रंगपुर
- B. लोथल
- C. बनावली
- D. धोलावीर
- E. मांडा

नीचे दिए गए विकल्पों में से सही उत्तर का चयन कीजिए :

1. केवल A, B, C
2. केवल B, C, D
3. केवल C, D, E
4. केवल A, B, D

**Options :**

- 485584148737. 1
- 485584148738. 2
- 485584148739. 3
- 485584148740. 4

**Question Number : 491 Question Id : 48558437186 Question Type : MCQ Option Shuffling : No Is Question Mandatory : No Calculator : None Response Time : N.A Think Time : N.A Minimum Instruction Time : 0 Correct Marks : 5 Wrong Marks : 1**

**Question Key Details :**

Key	Value
Comprehension	MCQ

From the given options, find out the objective of Asoka in propagating his policy of 'Dhamma' :

1. He wanted to make his Dhamma widespread.
2. He tried to hold his empire together.
3. He wanted to become a prophet.
4. He wanted to ensure that there was an account of his rule for posterity.

**Options :**

- 485584148741. 1
- 485584148742. 2
- 485584148743. 3
- 485584148744. 4

**Question Number : 491 Question Id : 48558437186 Question Type : MCQ Option Shuffling : No Is Question Mandatory : No Calculator : None Response Time : N.A Think Time : N.A Minimum Instruction Time : 0**

**Correct Marks : 5 Wrong Marks : 1**

**Question Key Details :**

Key	Value
Comprehension	MCQ

निम्न विकल्पों में से अशोक की 'धम्म' नीति को प्रचारित करने के उद्देश्य का चयन करें :

1. वह धम्म को व्यापक बनाना चाहता था।
2. वह अपने साम्राज्य को जोड़कर रखना चाहता था।
3. वह एक देवदूत बनाना चाहता था।
4. वह सुनिश्चित करना चाहता था कि भावी पीढ़ियों के लिए उसके शासन का महत्त्व रहे।

**Options :**

485584148741. 1  
485584148742. 2  
485584148743. 3  
485584148744. 4

**Question Number : 492 Question Id : 48558437187 Question Type : MCQ Option Shuffling : No Is Question Mandatory : No Calculator : None Response Time : N.A Think Time : N.A Minimum Instruction Time : 0**

**Correct Marks : 5 Wrong Marks : 1**

**Question Key Details :**

Key	Value
Comprehension	MCQ

Which of the following provincial centres in the Mauryan Empire were situated on long-distance trade routes?

- A. Pataliputra
- B. Taxila
- C. Ujjayini
- D. Tosali
- E. Suvarnagiri

Choose the **correct** answer from the options given below:

1. A, B only
2. B, C only
3. C, D only
4. D, E only

**Options :**

485584148745. 1  
485584148746. 2  
485584148747. 3  
485584148748. 4

**Question Number : 492 Question Id : 48558437187 Question Type : MCQ Option Shuffling : No Is Question Mandatory : No Calculator : None Response Time : N.A Think Time : N.A Minimum Instruction Time : 0**

**Correct Marks : 5 Wrong Marks : 1**

**Question Key Details :**

Key	Value
Comprehension	MCQ

मौर्य साम्राज्य में निम्न में से कौन-से प्रांतीय केंद्र सुदूर व्यापारिक मार्गों पर अवस्थित थे?

- A. पाटलिपुत्र
- B. तक्षशिला
- C. उज्जयिनी
- D. तोसाली
- E. सुवर्णगिरि

नीचे दिए गए विकल्पों में से सही उत्तर का चयन कीजिए :

- 1. केवल A, B
- 2. केवल B, C
- 3. केवल C, D
- 4. केवल D, E

**Options :**

- 485584148745. 1
- 485584148746. 2
- 485584148747. 3
- 485584148748. 4

**Question Number : 493 Question Id : 48558437188 Question Type : MCQ Option Shuffling : No Is Question Mandatory : No Calculator : None Response Time : N.A Think Time : N.A Minimum Instruction Time : 0 Correct Marks : 5 Wrong Marks : 1**

**Question Key Details :**

Key	Value
Comprehension	MCQ

Identify the places where Asokan Pillar Inscriptions are found :

- A. Kaushambi
- B. Sahasram
- C. Sarnath
- D. Kandahar
- E. Kalsi

Choose the correct answer from the options given below:

- 1. A, B, C only
- 2. B, C, D only
- 3. C, D, E only
- 4. A, B, E only

**Options :**

- 485584148749. 1
- 485584148750. 2
- 485584148751. 3
- 485584148752. 4

**Question Number : 493 Question Id : 48558437188 Question Type : MCQ Option Shuffling : No Is Question Mandatory : No Calculator : None Response Time : N.A Think Time : N.A Minimum Instruction Time : 0 Correct Marks : 5 Wrong Marks : 1**

**Question Key Details :**

Key	Value
-----	-------

निम्न में से उन स्थानों की पहचान कीजिए जहाँ पर अशोक स्तंभ शिलालेख पाए गए हैं :

- A. कोशाम्बी
- B. सहसराम
- C. सारनाथ
- D. फंदहार
- E. कलसी

नीचे दिए गए विकल्पों में से **सही** उत्तर का चयन कीजिए :

- 1. केवल A, B, C
- 2. केवल B, C, D
- 3. केवल C, D, E
- 4. केवल A, B, E

**Options :**

- 485584148749. 1
- 485584148750. 2
- 485584148751. 3
- 485584148752. 4

**Question Number : 494 Question Id : 48558437189 Question Type : MCQ Option Shuffling : No Is Question Mandatory : No Calculator : None Response Time : N.A Think Time : N.A Minimum Instruction Time : 0**

**Correct Marks : 5 Wrong Marks : 1**

**Question Key Details :**

Key	Value
Comprehension	MCQ

In the Mahabharata, Draupadi's marriage with the Pandavas is an example of which form of marriage?

- 1. Endogamy
- 2. Exogamy
- 3. Polygyny
- 4. Polyandry

**Options :**

- 485584148753. 1
- 485584148754. 2
- 485584148755. 3
- 485584148756. 4

**Question Number : 494 Question Id : 48558437189 Question Type : MCQ Option Shuffling : No Is Question Mandatory : No Calculator : None Response Time : N.A Think Time : N.A Minimum Instruction Time : 0**

**Correct Marks : 5 Wrong Marks : 1**

**Question Key Details :**

Key	Value
Comprehension	MCQ



महाभारत में द्रौपदी का पांडवों से विवाह किस प्रकार का विवाह कहलाता है?

1. अंतर्विवाह
2. बहिर्विवाह
3. बहुपत्नी
4. बहुपति

**Options :**

485584148753. 1  
485584148754. 2  
485584148755. 3  
485584148756. 4

**Question Number : 495 Question Id : 48558437190 Question Type : MCQ Option Shuffling : No Is Question Mandatory : No Calculator : None Response Time : N.A Think Time : N.A Minimum Instruction Time : 0 Correct Marks : 5 Wrong Marks : 1**

**Question Key Details :**

Key	Value
Comprehension	MCQ

Buddhist literature mentions several chaityas. 'Chaityas' refer to:

1. Tombstone
2. Burials
3. A sacred place with Shrine attached
4. Megalith

**Options :**

485584148757. 1  
485584148758. 2  
485584148759. 3  
485584148760. 4

**Question Number : 495 Question Id : 48558437190 Question Type : MCQ Option Shuffling : No Is Question Mandatory : No Calculator : None Response Time : N.A Think Time : N.A Minimum Instruction Time : 0 Correct Marks : 5 Wrong Marks : 1**

**Question Key Details :**

Key	Value
Comprehension	MCQ

बौद्ध साहित्य में विभिन्न चैत्यों का उल्लेख है। चैत्य किससे संबंधित है ?

1. समाधिप्रस्तर
2. कब्रिस्तान
3. पवित्र स्थल पर एक वेदी
4. महापाषाण

**Options :**

485584148757. 1  
485584148758. 2  
485584148759. 3  
485584148760. 4

Question Number : 496 Question Id : 48558437191 Question Type : MCQ Option Shuffling : No Is Question Mandatory : No Calculator : None  
Response Time : N.A Think Time : N.A Minimum Instruction Time : 0

Correct Marks : 5 Wrong Marks : 1

Question Key Details :

Key	Value
Comprehension	MCQ

The paintings on the walls of Ajanta depict stories from-

1. Vinaya Pitaka
2. Sutta Pitaka
3. Abhidhamma Pitaka
4. Jatakas

Options :

485584148761. 1  
485584148762. 2  
485584148763. 3  
485584148764. 4

Question Number : 496 Question Id : 48558437191 Question Type : MCQ Option Shuffling : No Is Question Mandatory : No Calculator : None  
Response Time : N.A Think Time : N.A Minimum Instruction Time : 0

Correct Marks : 5 Wrong Marks : 1

Question Key Details :

Key	Value
Comprehension	MCQ

अजंता की दीवारों पर बने चित्र किनकी कहानियों को दर्शाते हैं?

1. विनय पिटक
2. सुत्त पिटक
3. अभिधम्म पिटक
4. जातक

Options :

485584148761. 1  
485584148762. 2  
485584148763. 3  
485584148764. 4

Question Number : 497 Question Id : 48558437192 Question Type : MCQ Option Shuffling : No Is Question Mandatory : No Calculator : None  
Response Time : N.A Think Time : N.A Minimum Instruction Time : 0

Correct Marks : 5 Wrong Marks : 1

Question Key Details :

Key	Value
Comprehension	MCQ

When was 'Sanchi' declared as a World Heritage Site?

1. 1854
2. 1911
3. 1857
4. 1989

**Options :**

485584148765. 1

485584148766. 2

485584148767. 3

485584148768. 4

Question Number : 497 Question Id : 48558437192 Question Type : MCQ Option Shuffling : No Is Question Mandatory : No Calculator : None  
Response Time : N.A Think Time : N.A Minimum Instruction Time : 0

Correct Marks : 5 Wrong Marks : 1

**Question Key Details :**

Key	Value
Comprehension	MCQ

सौची' को विश्व कला दाय स्थान कब घोषित किया गया ?

1. 1854

2. 1911

3. 1857

4. 1989

**Options :**

485584148765. 1

485584148766. 2

485584148767. 3

485584148768. 4

Question Number : 498 Question Id : 48558437193 Question Type : MCQ Option Shuffling : No Is Question Mandatory : No Calculator : None  
Response Time : N.A Think Time : N.A Minimum Instruction Time : 0

Correct Marks : 5 Wrong Marks : 1

**Question Key Details :**

Key	Value
Comprehension	MCQ

Which of the following vows, the Jain monks and the nuns do NOT take ?

1. To abstain from killing

2. To observe celibacy

3. To abstain from stealing and lying

4. To possess property

**Options :**

485584148769. 1

485584148770. 2

485584148771. 3

485584148772. 4

Question Number : 498 Question Id : 48558437193 Question Type : MCQ Option Shuffling : No Is Question Mandatory : No Calculator : None  
Response Time : N.A Think Time : N.A Minimum Instruction Time : 0

Correct Marks : 5 Wrong Marks : 1

**Question Key Details :**

Key	Value
Comprehension	MCQ

निम्न में से जैन मुनि तथा साधवियों कौन सि प्रतिज्ञाएँ नहीं लेते?

1. हत्या ना करना
2. ब्रह्मचर्य का पालन
3. चोरी करने तथा झूठ बोलने से परहेज
4. धन संग्रह करना

**Options :**

485584148769. 1  
485584148770. 2  
485584148771. 3  
485584148772. 4

**Question Number : 499 Question Id : 48558437194 Question Type : MCQ Option Shuffling : No Is Question Mandatory : No Calculator : None Response Time : N.A Think Time : N.A Minimum Instruction Time : 0**

**Correct Marks : 5 Wrong Marks : 1**

**Question Key Details :**

Key	Value
Comprehension	MCQ

Match List I with List II :

LIST I		LIST II	
A.	Varaha Rescuing Earth Goddess	I.	Karnataka
B.	Durga, Mahabalipuram	II.	Maharashtra
C.	Reclining Vishnu on Sheshnag	III.	Tamil Nadu
D.	Kailashnatha Temple	IV.	Uttar Pradesh

Choose the correct answer from the options given below:

1. A-IV, B-III, C-II, D-I
2. A-I, B-II, C-III, D-IV
3. A-II, B-I, C-IV, D-III
4. A-I, B-III, C-IV, D-II

**Options :**

485584148773. 1  
485584148774. 2  
485584148775. 3  
485584148776. 4

**Question Number : 499 Question Id : 48558437194 Question Type : MCQ Option Shuffling : No Is Question Mandatory : No Calculator : None Response Time : N.A Think Time : N.A Minimum Instruction Time : 0**

**Correct Marks : 5 Wrong Marks : 1**

**Question Key Details :**

Key	Value
Comprehension	MCQ

सूची I का सूची II से मिलान कीजिए :

सूची I		सूची II	
A.	पृथ्वी देवी की रक्षा करते हुए वराह	I.	कर्णाटक
B.	दुर्गा, महाबलीपुरम्	II.	महाराष्ट्र
C.	शेषनाग पर विब्राम करते विष्णु	III.	तमिलनाडु
D.	कैलाशनाथ मंदिर	IV.	उत्तर प्रदेश

निम्नलिखित विकल्पों में से सही उत्तर का चयन कीजिए :

1. A-IV, B-III, C-II, D-I
2. A-I, B-II, C-III, D-IV
3. A-II, B-I, C-IV, D-III
4. A-I, B-III, C-IV, D-II

Options :

485584148773. 1  
485584148774. 2  
485584148775. 3  
485584148776. 4

Question Number : 500 Question Id : 48558437195 Question Type : MCQ Option Shuffling : No Is Question Mandatory : No Calculator : None Response Time : N.A Think Time : N.A Minimum Instruction Time : 0

Correct Marks : 5 Wrong Marks : 1

Question Key Details :

Key	Value
Comprehension	MCQ

Muhammad bin Tughlaq was so happy with the sermon of which preacher that he gave the preacher "a hundred thousand tankas (coins) and two hundred slaves."?

1. Nasiruddin
2. Nizamuddin
3. Fariduddin
4. Qutbuddin

Options :

485584148777. 1  
485584148778. 2  
485584148779. 3  
485584148780. 4

Question Number : 500 Question Id : 48558437195 Question Type : MCQ Option Shuffling : No Is Question Mandatory : No Calculator : None Response Time : N.A Think Time : N.A Minimum Instruction Time : 0

Correct Marks : 5 Wrong Marks : 1

Question Key Details :

Key	Value
Comprehension	MCQ

मुहम्मद बिन तुगलक किसके उपदेशों से इतना प्रसन्न हो गया कि उसने उपदेशक को "एक लाख टंके (मुद्राएँ) तथा दो सौ दास दे दिए" ?

1. नसीरुद्दीन
2. निजामुद्दीन
3. फरीदुद्दीन
4. कुतुबुद्दीन

**Options :**

485584148777. 1  
485584148778. 2  
485584148779. 3  
485584148780. 4

**Question Number : 501 Question Id : 48558437196 Question Type : MCQ Option Shuffling : No Is Question Mandatory : No Calculator : None Response Time : N.A Think Time : N.A Minimum Instruction Time : 0**

**Correct Marks : 5 Wrong Marks : 1**

**Question Key Details :**

Key	Value
Comprehension	MCQ

Identify the traveller who visited India from Italy in 13<sup>th</sup> century ?

1. Duarte Barbosa
2. Marco Polo
3. Antonio Monserrate
4. Peter Mundy

**Options :**

485584148781. 1  
485584148782. 2  
485584148783. 3  
485584148784. 4

**Question Number : 501 Question Id : 48558437196 Question Type : MCQ Option Shuffling : No Is Question Mandatory : No Calculator : None Response Time : N.A Think Time : N.A Minimum Instruction Time : 0**

**Correct Marks : 5 Wrong Marks : 1**

**Question Key Details :**

Key	Value
Comprehension	MCQ

13 वीं शताब्दी में इटली से भारत आने वाले यात्री का नाम क्या था ?

1. दूरते बारबोसा
2. मार्को पोलो
3. अंतोनियो मानसेरेते
4. पीटर मुंडी

**Options :**

485584148781. 1  
485584148782. 2  
485584148783. 3

485584148784. 4

Question Number : 502 Question Id : 48558437197 Question Type : MCQ Option Shuffling : No Is Question Mandatory : No Calculator : None  
Response Time : N.A Think Time : N.A Minimum Instruction Time : 0  
Correct Marks : 5 Wrong Marks : 1

Question Key Details :

Key	Value
Comprehension	MCQ

Which amongst the following options is NOT a true description for the shrine of Nasiruddin Chiragh-i Delhi?

1. The Shaikh is not a lamp of Delhi but of the entire universe.
2. People turn up in crowds, particularly on Sundays.
3. In the month of Diwali, the entire population visits and stays in tents for days.
4. Muslims and Hindus pay visits in the same spirit.

Options :

485584148785. 1  
485584148786. 2  
485584148787. 3  
485584148788. 4

Question Number : 502 Question Id : 48558437197 Question Type : MCQ Option Shuffling : No Is Question Mandatory : No Calculator : None  
Response Time : N.A Think Time : N.A Minimum Instruction Time : 0  
Correct Marks : 5 Wrong Marks : 1

Question Key Details :

Key	Value
Comprehension	MCQ

निम्न में से कौन-सा विवरण नसीरुद्दीन चिराग-ए-देहली के विषय में सही नहीं है?

1. शेख केवल देहली का ही नहीं अपितु पुरे ब्रह्माण्ड का चिराग था।
2. लोगों की भीड़ आती थी, विशेषकर रविवार को।
3. दीवाली के महीने में, सम्पूर्ण आबादी कई दिनों के लिए टेंटों में ठहरती है।
4. मुसलमान तथा हिन्दू दोनों ही श्रद्धा से जाते हैं।

Options :

485584148785. 1  
485584148786. 2  
485584148787. 3  
485584148788. 4

Question Number : 503 Question Id : 48558437198 Question Type : MCQ Option Shuffling : No Is Question Mandatory : No Calculator : None  
Response Time : N.A Think Time : N.A Minimum Instruction Time : 0  
Correct Marks : 5 Wrong Marks : 1

Question Key Details :

Key	Value
Comprehension	MCQ

Amir Khusrau, who gave a unique form to the 'Chisti Sama' by introducing the 'Qaul' was a disciple of:

1. Shaikh Fariduddin Ganj-i Shakar
2. Shaikh Nasiruddin Chirag-i Dehli
3. Shaikh Muamuddin Sijzi
4. Shaikh Nizamuddin Auliya

**Options :**

485584148789. 1  
485584148790. 2  
485584148791. 3  
485584148792. 4

**Question Number : 503 Question Id : 48558437198 Question Type : MCQ Option Shuffling : No Is Question Mandatory : No Calculator : None Response Time : N.A Think Time : N.A Minimum Instruction Time : 0 Correct Marks : 5 Wrong Marks : 1**

**Question Key Details :**

Key	Value
Comprehension	MCQ

अमीर खुसरो, जिनने 'चिश्ती समा' को 'कौल' द्वारा एक अद्भुत रूप दिया, किसके शिष्य थे ?

1. शेख फरीदुद्दीन गंज-ए-शकर
2. शेख नसीरुद्दीन चिराग-ए-देहली
3. शेख मुईनुद्दीन सिज़्ज़ी
4. शेख निज़मुद्दीन औलिया

**Options :**

485584148789. 1  
485584148790. 2  
485584148791. 3  
485584148792. 4

**Question Number : 504 Question Id : 48558437199 Question Type : MCQ Option Shuffling : No Is Question Mandatory : No Calculator : None Response Time : N.A Think Time : N.A Minimum Instruction Time : 0**

**Correct Marks : 5 Wrong Marks : 1**

**Question Key Details :**

Key	Value
Comprehension	MCQ

In late 15<sup>th</sup> century, which religious teacher emerged in Assam as a leading proponent of Vaishnavism ?

1. Ramaranda
2. Ramarajacharya
3. Shakaradeva
4. Sri Chaitanya

**Options :**

485584148793. 1  
485584148794. 2  
485584148795. 3  
485584148796. 4



Question Number : 504 Question Id : 48558437199 Question Type : MCQ Option Shuffling : No Is Question Mandatory : No Calculator : None  
Response Time : N.A Think Time : N.A Minimum Instruction Time : 0

Correct Marks : 5 Wrong Marks : 1

Question Key Details :

Key	Value
Comprehension	MCQ

15 वीं शताब्दी के उत्तरार्ध में, असम में कौन-सा धार्मिक गुरु वैष्णववाद के अग्रणी प्रस्तावक के रूप में उभरे थे ?

1. रामानंद
2. रामानुजाचार्य
3. शंकरदेव
4. श्री चैतन्य

Options :

485584148793. 1

485584148794. 2

485584148795. 3

485584148796. 4

Question Number : 505 Question Id : 48558437200 Question Type : MCQ Option Shuffling : No Is Question Mandatory : No Calculator : None  
Response Time : N.A Think Time : N.A Minimum Instruction Time : 0

Correct Marks : 5 Wrong Marks : 1

Question Key Details :

Key	Value
Comprehension	MCQ

The feature of the temple that often dwarfed the towers on the central shrines and signalled the presence of the temple from a great distance is known as \_\_\_\_\_.

1. Mandapas
2. Gopuram
3. Chariot
4. Shrine

Options :

485584148797. 1

485584148798. 2

485584148799. 3

485584148800. 4

Question Number : 505 Question Id : 48558437200 Question Type : MCQ Option Shuffling : No Is Question Mandatory : No Calculator : None  
Response Time : N.A Think Time : N.A Minimum Instruction Time : 0

Correct Marks : 5 Wrong Marks : 1

Question Key Details :

Key	Value
Comprehension	MCQ

मंदिर की वह विशेषता जो अक्सर ही मुख्य मंदिर के मीनारों को छोटा दिखाती है तथा दूर से ही मंदिर की उपस्थिति का आभास कराती है, तो उसे \_\_\_\_\_ कहते हैं।

1. मंडप
2. गोपुरम्
3. रथ
4. मंदिर

**Options :**

485584148797. 1  
485584148798. 2  
485584148799. 3  
485584148800. 4

**Question Number : 506 Question Id : 48558437201 Question Type : MCQ Option Shuffling : No Is Question Mandatory : No Calculator : None Response Time : N.A Think Time : N.A Minimum Instruction Time : 0**

**Correct Marks : 5 Wrong Marks : 1**

**Question Key Details :**

Key	Value
Comprehension	MCQ

From the given options, identify how the rulers of Vijayanagara drew on different traditions to create an imperial culture ?

1. By occupation of Raichur Doab.
2. Through construction of the Virupaksha temple.
3. By constructing Vitthala temple in the Vijayanagara Empire.
4. By enclosing the agriculture fields.

**Options :**

485584148801. 1  
485584148802. 2  
485584148803. 3  
485584148804. 4

**Question Number : 506 Question Id : 48558437201 Question Type : MCQ Option Shuffling : No Is Question Mandatory : No Calculator : None Response Time : N.A Think Time : N.A Minimum Instruction Time : 0**

**Correct Marks : 5 Wrong Marks : 1**

**Question Key Details :**

Key	Value
Comprehension	MCQ

निम्न विकल्पों में से पहचानें कि विजयनगर के शासकों ने एक शानदार संस्कृति के सर्जन के लिए कौन-सी विभिन्न परम्पराओं को प्रारंभ किया?

1. रायचूर दोआब पर अधिकार करके
2. विरूपाक्ष मंदिर के निर्माण द्वारा
3. विजयनगर साम्राज्य में विठ्ठल मंदिर के निर्माण द्वारा
4. खेतों को बाड़ा लगाकर

**Options :**

485584148801. 1  
485584148802. 2

485584148803. 3  
485584148804. 4

**Question Number : 507 Question Id : 48558437202 Question Type : MCQ Option Shuffling : No Is Question Mandatory : No Calculator : None  
Response Time : N.A Think Time : N.A Minimum Instruction Time : 0  
Correct Marks : 5 Wrong Marks : 1**

**Question Key Details :**

Key	Value
Comprehension	MCQ

Who among the following founded a suburban township near Vijayanagara called 'Nagalapuram' ?

1. Harilara
2. Bukka
3. Krishnadeva Raya
4. Rama Raya

**Options :**

485584148805. 1  
485584148806. 2  
485584148807. 3  
485584148808. 4

**Question Number : 507 Question Id : 48558437202 Question Type : MCQ Option Shuffling : No Is Question Mandatory : No Calculator : None  
Response Time : N.A Think Time : N.A Minimum Instruction Time : 0  
Correct Marks : 5 Wrong Marks : 1**

**Question Key Details :**

Key	Value
Comprehension	MCQ

निम्न में से किसने विजयनगर के पास 'नगलपुरम्' नामक उपनगर की स्थापना की थी ?

1. हरिहर
2. बुक्का
3. कृष्णदेव राय
4. राम राय

**Options :**

485584148805. 1  
485584148806. 2  
485584148807. 3  
485584148808. 4

**Question Number : 508 Question Id : 48558437203 Question Type : MCQ Option Shuffling : No Is Question Mandatory : No Calculator : None  
Response Time : N.A Think Time : N.A Minimum Instruction Time : 0  
Correct Marks : 5 Wrong Marks : 1**

**Question Key Details :**

Key	Value
Comprehension	MCQ

In terms of Vijayanagara temple architecture, 'gopurams' refer to :

1. Central Shrines
2. Royal Gateways
3. Pavilion Structures
4. Pillared Corridors

**Options :**

485584148809. 1  
485584148810. 2  
485584148811. 3  
485584148812. 4

**Question Number : 508 Question Id : 48558437203 Question Type : MCQ Option Shuffling : No Is Question Mandatory : No Calculator : None Response Time : N.A Think Time : N.A Minimum Instruction Time : 0**

**Correct Marks : 5 Wrong Marks : 1**

**Question Key Details :**

Key	Value
Comprehension	MCQ

विजयनगर मंदिर को वास्तुकला के सन्दर्भ में, 'गोपुरम्' क्या हैं ?

1. मुख्य मंदिर
2. राजकीय प्रवेशद्वार
3. मंत्रप संरचनाएँ
4. खंभों वाले गलियारे

**Options :**

485584148809. 1  
485584148810. 2  
485584148811. 3  
485584148812. 4

**Question Number : 509 Question Id : 48558437204 Question Type : MCQ Option Shuffling : No Is Question Mandatory : No Calculator : None Response Time : N.A Think Time : N.A Minimum Instruction Time : 0**

**Correct Marks : 5 Wrong Marks : 1**

**Question Key Details :**

Key	Value
Comprehension	MCQ

Foreign traveller Domingo Paes described two important places in the Vijayanagara as "House of Victory".

Choose the **correct** option:

1. The Audience Hall and the Lotus Mahal
2. The Lotus Mahal and the Hazara Ram Temple
3. The Mahanavami Dibba and the Hazara Ram Temple
4. The Audience Hall and the Mahanavami Diba

**Options :**

485584148813. 1  
485584148814. 2  
485584148815. 3  
485584148816. 4

Question Number : 509 Question Id : 48558437204 Question Type : MCQ Option Shuffling : No Is Question Mandatory : No Calculator : None  
Response Time : N.A Think Time : N.A Minimum Instruction Time : 0  
Correct Marks : 5 Wrong Marks : 1

Question Key Details :

Key	Value
Comprehension	MCQ

विदेशी यात्री डोमिंगो पेस ने विजयनगर में दो महत्वपूर्ण स्थानों का विवरण 'विजय का भवन' कहकर दिया। सही विकल्प का चयन करें :

1. सभा मंडप तथा कमल महल
2. कमल महल तथा हज़ारा राम मंदिर
3. महानवमी डिब्बा तथा हज़ारा राम मंदिर
4. सभा मंडप तथा महानवमी डिब्बा

Options :

485584148813. 1  
485584148814. 2  
485584148815. 3  
485584148816. 4

Question Number : 510 Question Id : 48558437205 Question Type : MCQ Option Shuffling : No Is Question Mandatory : No Calculator : None  
Response Time : N.A Think Time : N.A Minimum Instruction Time : 0  
Correct Marks : 5 Wrong Marks : 1

Question Key Details :

Key	Value
Comprehension	MCQ

The 'Persian Wheel' refers to a type of:

1. Spinning Device
2. Irrigation Device
3. Military device
4. Writing device

Options :

485584148817. 1  
485584148818. 2  
485584148819. 3  
485584148820. 4

Question Number : 510 Question Id : 48558437205 Question Type : MCQ Option Shuffling : No Is Question Mandatory : No Calculator : None  
Response Time : N.A Think Time : N.A Minimum Instruction Time : 0  
Correct Marks : 5 Wrong Marks : 1

Question Key Details :

Key	Value
Comprehension	MCQ

‘रहट’ निम्न में से किस प्रकार का यंत्र है ?

1. कताई यंत्र
2. सिंचाई यंत्र
3. सेन्य यंत्र
4. लेखन यंत्र

**Options :**

485584148817. 1  
485584148818. 2  
485584148819. 3  
485584148820. 4

**Question Number : 511 Question Id : 48558437206 Question Type : MCQ Option Shuffling : No Is Question Mandatory : No Calculator : None Response Time : N.A Think Time : N.A Minimum Instruction Time : 0**

**Correct Marks : 5 Wrong Marks : 1**

**Question Key Details :**

Key	Value
Comprehension	MCQ

Two specialised professions held a high social standing in the creation of ‘manuscript’. Identify the two professions:

1. Bookbinders and Gilders.
2. Painters and Papermakers.
3. Papermakers and Calligraphers.
4. Painters and Calligraphers.

**Options :**

485584148821. 1  
485584148822. 2  
485584148823. 3  
485584148824. 4

**Question Number : 511 Question Id : 48558437206 Question Type : MCQ Option Shuffling : No Is Question Mandatory : No Calculator : None Response Time : N.A Think Time : N.A Minimum Instruction Time : 0**

**Correct Marks : 5 Wrong Marks : 1**

**Question Key Details :**

Key	Value
Comprehension	MCQ

‘पांडुलिपि’ बनाने में दो विशेषज्ञ व्यवसायियों की उच्च सामाजिक हैसियत होती थी। निम्न में से ऐसे दो व्यवसायों की पहचान कीजिए:

1. जिल्दसाज़ व कोफ़्तगर (गिल्डर)
2. चित्रकार व कागज निर्माता
3. कागज निर्माता व सुलेखक
4. चित्रकार व सुलेखक

**Options :**

485584148821. 1  
485584148822. 2  
485584148823. 3

Question Number : 512 Question Id : 48558437207 Question Type : MCQ Option Shuffling : No Is Question Mandatory : No Calculator : None  
 Response Time : N.A Think Time : N.A Minimum Instruction Time : 0  
 Correct Marks : 5 Wrong Marks : 1  
 Question Key Details :

Key	Value
Comprehension	MCQ

Arrange the following in a chronological order :

- 'Alamgir Nama' compiled by Muhammad Kazim.
- Lahori composes the first two daftars of 'Badshah Nama'.
- Abu'l Fazl works on the 'Akbar Nama'.
- Babur's memoirs translated in Persian.
- Gulbadan Begam begins to write 'Humayun Nama'.

Choose the correct answer from the options given below:

- B, A, E, D, C
- D, E, A, B, C
- E, D, C, B, A
- A, B, C, D, E

Options :

485584148825. 1
485584148826. 2
485584148827. 3
485584148828. 4

Question Number : 512 Question Id : 48558437207 Question Type : MCQ Option Shuffling : No Is Question Mandatory : No Calculator : None  
 Response Time : N.A Think Time : N.A Minimum Instruction Time : 0  
 Correct Marks : 5 Wrong Marks : 1  
 Question Key Details :

Key	Value
Comprehension	MCQ

निम्नलिखित को कालक्रमानुसार व्यवस्थित कीजिए:

- मुहम्मद काजिम द्वारा संकलित 'आलमगीर नामा'।
- लाहौरी ने 'बादशाह नाम' के प्रथम दो दफ्तरों की रचना।
- अबूल फजल ने 'अकबर नामा' पर कार्य किया।
- बाबर के संस्मरणों का फारसी में अनुवाद हुआ।
- गुलबदन बेगम ने 'हुमायूँ नामा' का लेखन प्रारंभ किया।

नीचे दिए गए विकल्पों में से सही उत्तर का चयन कीजिए :

- B, A, E, D, C
- D, E, A, B, C
- E, D, C, B, A
- A, B, C, D, E

Options :

485584148825. 1
485584148826. 2
485584148827. 3
485584148828. 4

Question Number : 513 Question Id : 48558437208 Question Type : MCQ Option Shuffling : No Is Question Mandatory : No Calculator : None  
 Response Time : N.A Think Time : N.A Minimum Instruction Time : 0  
 Correct Marks : 5 Wrong Marks : 1  
 Question Key Details :

Key	Value
Comprehension	MCQ

Match List I with List II :

LIST I		LIST II	
A.	Jahangir's Dream	I.	Ramdas
B.	Birth of Prince Salim	II.	Badshah Nama
C.	Dara Shikoh's Wedding	III.	Payag
D.	Shah Jahan honouring Prince Aurangzeb	IV.	Abul Hasan

Choose the correct answer from the options given below:

1. A-II, B-III, C-IV, D-I
2. A-III, B-II, C-I, D-IV
3. A-IV, B-I, C-II, D-III
4. A-I, B-IV, C-III, D-II

Options :

485584148829. 1  
 485584148830. 2  
 485584148831. 3  
 485584148832. 4

Question Number : 513 Question Id : 48558437208 Question Type : MCQ Option Shuffling : No Is Question Mandatory : No Calculator : None  
 Response Time : N.A Think Time : N.A Minimum Instruction Time : 0  
 Correct Marks : 5 Wrong Marks : 1  
 Question Key Details :

Key	Value
Comprehension	MCQ

सूची I का सूची II से मिलान कीजिए :

सूची I		सूची II	
A.	जहाँगीर का स्वप्न	I.	रामदास
B.	शहजादे सलीम का जन्म	II.	बादशाह नामा
C.	दारा शिकोह का विवाह	III.	पयाग
D.	शहजादे औरंगजेब का सम्मान करते हुए शाहजहाँ	IV.	अबुल हसन

निम्नलिखित विकल्पों में से सही उत्तर का चयन कीजिए :

1. A-II, B-III, C-IV, D-I
2. A-III, B-II, C-I, D-IV
3. A-IV, B-I, C-II, D-III
4. A-I, B-IV, C-III, D-II

Options :

485584148829. 1  
 485584148830. 2



485584148831. 3  
485584148832. 4

Question Number : 514 Question Id : 48558437209 Question Type : MCQ Option Shuffling : No Is Question Mandatory : No Calculator : None  
Response Time : N.A Think Time : N.A Minimum Instruction Time : 0

Correct Marks : 5 Wrong Marks : 1

Question Key Details :

Key	Value
Comprehension	MCQ

Who among the following was NOT one of the British heroes celebrated in the "Relief of Lucknow" painting?

1. Henry Lawrence
2. James Outram
3. Henry Havelock
4. Colin Campbell

Options :

485584148833. 1  
485584148834. 2  
485584148835. 3  
485584148836. 4

Question Number : 514 Question Id : 48558437209 Question Type : MCQ Option Shuffling : No Is Question Mandatory : No Calculator : None  
Response Time : N.A Think Time : N.A Minimum Instruction Time : 0

Correct Marks : 5 Wrong Marks : 1

Question Key Details :

Key	Value
Comprehension	MCQ

रिलीफ ऑफ लखनऊ पेंटिंग में से कौन-से ब्रिटिश नायक की प्रशंसा नहीं की गई है ?

1. हेनरी लॉरेंस
2. जेम्स आउट्रम
3. हेनरी हेवेलॉक
4. कॉलिन कैम्पबेल

Options :

485584148833. 1  
485584148834. 2  
485584148835. 3  
485584148836. 4

Question Number : 515 Question Id : 48558437210 Question Type : MCQ Option Shuffling : No Is Question Mandatory : No Calculator : None  
Response Time : N.A Think Time : N.A Minimum Instruction Time : 0

Correct Marks : 5 Wrong Marks : 1

Question Key Details :

Key	Value
Comprehension	MCQ

What do you understand by 'bell of arms' seized by sepoys in 1857?

1. Record Room
2. Treasury
3. Storeroom in which weapons were kept
4. Government Buildings

**Options :**

485584148837. 1  
485584148838. 2  
485584148839. 3  
485584148840. 4

**Question Number : 515 Question Id : 48558437210 Question Type : MCQ Option Shuffling : No Is Question Mandatory : No Calculator : None Response Time : N.A Think Time : N.A Minimum Instruction Time : 0 Correct Marks : 5 Wrong Marks : 1**

**Question Key Details :**

Key	Value
Comprehension	MCQ

1857 में सिपाहियों द्वारा जब्त 'शास्त्रघर' से आप क्या समझते हैं?

1. अभिलेख कक्ष
2. कोषागार
3. हथियार रखने का भंडार कक्ष
4. सरकारी भवन

**Options :**

485584148837. 1  
485584148838. 2  
485584148839. 3  
485584148840. 4

**Question Number : 516 Question Id : 48558437211 Question Type : MCQ Option Shuffling : No Is Question Mandatory : No Calculator : None Response Time : N.A Think Time : N.A Minimum Instruction Time : 0 Correct Marks : 5 Wrong Marks : 1**

**Question Key Details :**

Key	Value
Comprehension	MCQ

A British Journal called 'Punch', published a sarcastic cartoon on the Revolt of 1857. Identify the title of the cartoon:

1. The Clemency of Canning
2. Execution of Mutinous Sepoys
3. The British Lion's Vengeance
4. In Memoriam

**Options :**

485584148841. 1  
485584148842. 2  
485584148843. 3  
485584148844. 4

Question Number : 516 Question Id : 48558437211 Question Type : MCQ Option Shuffling : No Is Question Mandatory : No Calculator : None  
Response Time : N.A Think Time : N.A Minimum Instruction Time : 0

Correct Marks : 5 Wrong Marks : 1

Question Key Details :

Key	Value
Comprehension	MCQ

पंच नामक एक ब्रिटिश पत्रिका ने 1857 के विद्रोह पर एक व्यंगचित्र प्रकाशित किया था। व्यंगचित्र के शीर्षक की पहचान कीजिए।

1. द क्विन्सेस ऑफ़ केनिंग
2. एग्जीक्यूशन ऑफ़ म्यूटिनस सेपोय्स
3. द ब्रिटिश लायन्स वेन्जिअन्स
4. इन मेमोरियम

Options :

485584148841. 1

485584148842. 2

485584148843. 3

485584148844. 4

Question Number : 517 Question Id : 48558437212 Question Type : MCQ Option Shuffling : No Is Question Mandatory : No Calculator : None  
Response Time : N.A Think Time : N.A Minimum Instruction Time : 0

Correct Marks : 5 Wrong Marks : 1

Question Key Details :

Key	Value
Comprehension	MCQ

Identify the **wrong** statement's about the Subsidiary Alliance from the given options.

- A. In the territory of the ally, a British armed contingent was to be stationed.
- B. The ally would have to provide the resources for the contingent.
- C. The British would not protect the ally from all dangers and enemies.
- D. All the revenue will be collected and kept by the British.
- E. One British officer called the 'Resident' was attached to the court.

Choose the **correct** answer from the options given below:

1. B, C Only
2. A, E Only
3. C, D Only
4. B, E Only

Options :

485584148845. 1

485584148846. 2

485584148847. 3

485584148848. 4

Question Number : 517 Question Id : 48558437212 Question Type : MCQ Option Shuffling : No Is Question Mandatory : No Calculator : None  
Response Time : N.A Think Time : N.A Minimum Instruction Time : 0

Correct Marks : 5 Wrong Marks : 1

Question Key Details :

Key	Value
Comprehension	MCQ

सहायक संधि के सम्बन्ध में निम्न विकल्पों में से गलत कथनों की पहचान कीजिए।

- A. सहयोगी के भू-भाग में एक ब्रिटिश सशस्त्र टुकड़ी को रखा जाना था।
- B. सहयोगी को इस टुकड़ी के लिए संसाधन प्रदान करने थे।
- C. ब्रिटिश अधिकारी समस्त खतरों व शत्रुओं से सहयोगी की सुरक्षा नहीं करेंगे।
- D. समस्त राजस्व ब्रिटिश अधिकारियों द्वारा एकत्र व रखा जाना था।
- E. रेजीडेंट नामक पद वाला एक ब्रिटिश अधिकारी सहयोगी के दरबार में रखा जाता था।

नीचे दिए गए विकल्पों में से सही उत्तर का चयन कीजिए:

- 1. केवल B, C
- 2. केवल A, E
- 3. केवल C, D
- 4. केवल B, E

**Options :**

- 485584148845. 1
- 485584148846. 2
- 485584148847. 3
- 485584148848. 4

**Question Number : 518 Question Id : 48558437213 Question Type : MCQ Option Shuffling : No Is Question Mandatory : No Calculator : None Response Time : N.A Think Time : N.A Minimum Instruction Time : 0**

**Correct Marks : 5 Wrong Marks : 1**

**Question Key Details :**

Key	Value
Comprehension	MCQ

Match List I with List II:

LIST I		LIST II	
A.	Subsidiary Alliance of Wellesley	I.	1801
B.	Subsidiary Alliance in Awadh	II.	1856
C.	Annexation of Awadh	III.	1856-57
D.	Summary Revenue Settlement in Awadh	IV.	1798

Choose the correct answer from the options given below:

- 1. A-IV, B-III, C-II, D-I
- 2. A-I, B-II, C-III, D-IV
- 3. A-IV, B-I, C-II, D-III
- 4. A-I, B-IV, C-III, D-II

**Options :**

- 485584148849. 1
- 485584148850. 2
- 485584148851. 3
- 485584148852. 4

**Question Number : 518 Question Id : 48558437213 Question Type : MCQ Option Shuffling : No Is Question Mandatory : No Calculator : None Response Time : N.A Think Time : N.A Minimum Instruction Time : 0**

**Correct Marks : 5 Wrong Marks : 1**

**Question Key Details :**

Key	Value
-----	-------

सूची I का सूची II से मिलान कीजिए:

सूची I		सूची II	
A.	वैलेज़ली का सहायक संधि	I.	1801
B.	अवध में सहायक संधि	II.	1856
C.	अवध का अधिनहन	III.	1856-57
D.	अवध में एकमुश्त लगान बंदोबस्त	IV.	1798

निम्नलिखित विकल्पों में से **सही** उत्तर का चयन कीजिए :

1. A-IV, B-III, C-II, D-I
2. A-I, B-II, C-III, D-IV
3. A-IV, B-I, C-II, D-III
4. A-I, B-IV, C-III, D-II

**Options :**

485584148849. 1  
485584148850. 2  
485584148851. 3  
485584148852. 4

**Question Number : 519 Question Id : 48558437214 Question Type : MCQ Option Shuffling : No Is Question Mandatory : No Calculator : None Response Time : N.A Think Time : N.A Minimum Instruction Time : 0 Correct Marks : 5 Wrong Marks : 1**

**Question Key Details :**

Key	Value
Comprehension	MCQ

Arrange the following in a chronological order.

- A. Establishment of the Survey of India.
- B. Introduction of Railway in India .
- C. Battle of Plassey
- D. Supreme Court set-up in Calcutta.

Choose the **correct** answer from the options given below:

1. C, D, B, A
2. D, C, A, B
3. A, C, D, B
4. A, B, C, D

**Options :**

485584148853. 1  
485584148854. 2  
485584148855. 3  
485584148856. 4

**Question Number : 519 Question Id : 48558437214 Question Type : MCQ Option Shuffling : No Is Question Mandatory : No Calculator : None Response Time : N.A Think Time : N.A Minimum Instruction Time : 0 Correct Marks : 5 Wrong Marks : 1**

**Question Key Details :**

Key	Value
Comprehension	MCQ

निम्न को कालक्रमानुसार व्यवस्थित कीजिए।

- A. सर्वे ऑफ़ इंडिया की स्थापना।
- B. भारत में रेलवे का प्रारंभ।
- C. प्लासी की लड़ाई।
- D. कलकत्ता में सर्वोच्च न्यायलय की स्थापना।

नीचे दिए गए विकल्पों में से **सही** उत्तर का चयन कीजिए:

- 1. C, D, B, A
- 2. D, C, A, B
- 3. A, C, D, B
- 4. A, B, C, D

**Options :**

- 485584148853. 1
- 485584148854. 2
- 485584148855. 3
- 485584148856. 4

**Question Number : 520 Question Id : 48558437215 Question Type : MCQ Option Shuffling : No Is Question Mandatory : No Calculator : None Response Time : N.A Think Time : N.A Minimum Instruction Time : 0**

**Correct Marks : 5 Wrong Marks : 1**

**Question Key Details :**

Key	Value
Comprehension	MCQ

Which movement brought to light the towering leader known as "Lal, Bal, Pal"?

- 1. Salt Satyagraha
- 2. Non-Cooperation Movement
- 3. Bardoli Peasants Movement
- 4. Swadeshi Movement

**Options :**

- 485584148857. 1
- 485584148858. 2
- 485584148859. 3
- 485584148860. 4

**Question Number : 520 Question Id : 48558437215 Question Type : MCQ Option Shuffling : No Is Question Mandatory : No Calculator : None Response Time : N.A Think Time : N.A Minimum Instruction Time : 0**

**Correct Marks : 5 Wrong Marks : 1**

**Question Key Details :**

Key	Value
Comprehension	MCQ

निम्नलिखित में से किस आन्दोलन ने "लाल, बाल, पाल" के रूप में ज्ञात बड़े नेताओं को ख्याति दी?

1. नमक सत्याग्रह
2. असहयोग आन्दोलन
3. बारदोली कृषक आन्दोलन
4. स्वदेशी आन्दोलन

**Options :**

485584148857. 1  
485584148858. 2  
485584148859. 3  
485584148860. 4

**Question Number : 521 Question Id : 48558437216 Question Type : MCQ Option Shuffling : No Is Question Mandatory : No Calculator : None Response Time : N.A Think Time : N.A Minimum Instruction Time : 0**

**Correct Marks : 5 Wrong Marks : 1**

**Question Key Details :**

Key	Value
Comprehension	MCQ

When was "Independence day" of India observed for the first time during the period of colonial rule?

1. 15 August 1947
2. 26 January 1950
3. 26 January 1930
4. 6 April 1930

**Options :**

485584148861. 1  
485584148862. 2  
485584148863. 3  
485584148864. 4

**Question Number : 521 Question Id : 48558437216 Question Type : MCQ Option Shuffling : No Is Question Mandatory : No Calculator : None Response Time : N.A Think Time : N.A Minimum Instruction Time : 0**

**Correct Marks : 5 Wrong Marks : 1**

**Question Key Details :**

Key	Value
Comprehension	MCQ

औपनिवेशिक शासन के दौरान भारत का "स्वतंत्रता दिवस" निम्न में से किस दिन मनाया गया था?

1. 15 अगस्त 1947
2. 26 जनवरी 1950
3. 26 जनवरी 1930
4. 6 अप्रैल 1930

**Options :**

485584148861. 1  
485584148862. 2  
485584148863. 3  
485584148864. 4

Question Number : 522 Question Id : 48558437217 Question Type : MCQ Option Shuffling : No Is Question Mandatory : No Calculator : None  
Response Time : N.A Think Time : N.A Minimum Instruction Time : 0

Correct Marks : 5 Wrong Marks : 1

Question Key Details :

Key	Value
Comprehension	MCQ

Mahatma Gandhi opposed the demand for separate electorates for "lower caste". Four reasons for this are given below in the options. Find out which is the correct reason.

1. Gandhi believed that separate electorates would prevent the integration of the "lower caste" into mainstream society.
2. He believed that there was no such need as "lower caste" were in a good economic condition.
3. He was completely against giving separate electorates to anyone in the Indian society.
4. Gandhi was against the "lower castes."

Options :

485584148865. 1

485584148866. 2

485584148867. 3

485584148868. 4

Question Number : 522 Question Id : 48558437217 Question Type : MCQ Option Shuffling : No Is Question Mandatory : No Calculator : None  
Response Time : N.A Think Time : N.A Minimum Instruction Time : 0

Correct Marks : 5 Wrong Marks : 1

Question Key Details :

Key	Value
Comprehension	MCQ

महात्मा गाँधी ने "निम्न जातियों" के लिए पृथक निर्वाचक का विरोध किया था। नीचे विकल्पों में चार कारण बताए गए हैं।  
सही कारण का पता लगाइए।

1. गाँधी का विश्वास था कि पृथक निर्वाचक होने से "निम्न जातियों" का मुख्यधारा में एकीकरण बाधित होगा।
2. उनका विश्वास था कि इसकी कोई आवश्यकता नहीं थी क्योंकि "निम्न जातियों" की आर्थिक स्थिति अच्छी थी।
3. वे भारतीय समाज में किसी को भी पृथक निर्वाचक दिए जाने के पूर्णतया विरुद्ध थे।
4. गाँधी "निम्न जातियों" के विरुद्ध थे।

Options :

485584148865. 1

485584148866. 2

485584148867. 3

485584148868. 4

Question Number : 523 Question Id : 48558437218 Question Type : MCQ Option Shuffling : No Is Question Mandatory : No Calculator : None  
Response Time : N.A Think Time : N.A Minimum Instruction Time : 0

Correct Marks : 5 Wrong Marks : 1

Question Key Details :

Key	Value
Comprehension	MCQ



Who among the following historians described about Gandhi that South Africa was the "the making of the Mahatma"?

1. Sumit Sarkar
2. Chahdram Devanesan
3. Judith Brown
4. David Hardiman

**Options :**

485584148869. 1  
485584148870. 2  
485584148871. 3  
485584148872. 4

**Question Number : 523 Question Id : 48558437218 Question Type : MCQ Option Shuffling : No Is Question Mandatory : No Calculator : None Response Time : N.A Think Time : N.A Minimum Instruction Time : 0**

**Correct Marks : 5 Wrong Marks : 1**

**Question Key Details :**

Key	Value
Comprehension	MCQ

निम्नलिखित में से किस इतिहासकार ने गाँधी के बारे में कहा था कि दक्षिण अफ्रीका ने गाँधी को 'महात्मा' बनाया?

1. सुमित सरकार
2. चंद्रन देवनेसन
3. जुडिथ ब्राऊन
4. डेविस हार्डीमान

**Options :**

485584148869. 1  
485584148870. 2  
485584148871. 3  
485584148872. 4

**Question Number : 524 Question Id : 48558437219 Question Type : MCQ Option Shuffling : No Is Question Mandatory : No Calculator : None Response Time : N.A Think Time : N.A Minimum Instruction Time : 0**

**Correct Marks : 5 Wrong Marks : 1**

**Question Key Details :**

Key	Value
Comprehension	MCQ

Arrange the following in a chronological order.

- A. "Direct Action Day" declared by the Muslims League.
- B. Starting of Quit India Movement.
- C. Coming of Lord Mountbatten as the Viceroy of India.
- D. British Labour government committed to grant Independence to India.

Choose the correct answer from the options given below:

- 1. D, B, C, A
- 2. B, D, A, C
- 3. C, A, B, D
- 4. A, B, C, D

Options :

- 485584148873. 1
- 485584148874. 2
- 485584148875. 3
- 485584148876. 4

Question Number : 524 Question Id : 48558437219 Question Type : MCQ Option Shuffling : No Is Question Mandatory : No Calculator : None  
Response Time : N.A Think Time : N.A Minimum Instruction Time : 0

Correct Marks : 5 Wrong Marks : 1

Question Key Details :

Key	Value
Comprehension	MCQ

निम्नलिखित को कालक्रमानुसार व्यवस्थित कीजिए।

- A. मुस्लिम लीग द्वारा 'प्रत्यक्ष कार्रवाई दिवस' की घोषणा।
- B. भारत छोड़ो आन्दोलन का प्रारंभ।
- C. लार्ड माउन्टबेटन का भारत के वायसराय के रूप में आगमन।
- D. ब्रिटेन की लेबल सरकार की भारत को स्वतंत्रता प्रदान करने की वचनबद्धता।

नीचे दिए गए विकल्पों में से सही उत्तर का चयन कीजिए:

- 1. D, B, C, A
- 2. B, D, A, C
- 3. C, A, B, D
- 4. A, B, C, D

Options :

- 485584148873. 1
- 485584148874. 2
- 485584148875. 3
- 485584148876. 4

Question Number : 525 Question Id : 48558437220 Question Type : MCQ Option Shuffling : No Is Question Mandatory : No Calculator : None  
Response Time : N.A Think Time : N.A Minimum Instruction Time : 0

Correct Marks : 5 Wrong Marks : 1

Question Key Details :

Key	Value
Comprehension	MCQ

Match List I with List II:

LIST I		LIST II	
A.	Garm Hawa	I.	Urvashi Butalia
B.	Sare Jaha Se Achha Hindustan Hamara	II.	Khushdeva Singh
C.	The Other Side of Silence	III.	A Film on Partition
D.	Love is Stronger Than Hate: A Remembrance of 1947	IV.	Mohammad Iqbal

Choose the correct answer from the options given below:

1. A-III, B-I, C-II, D-IV
2. A-I, B-II, C-III, D-IV
3. A-I, B-III, C-IV, D-II
4. A-III, B-IV, C-I, D-II

Options :

485584148877. 1  
485584148878. 2  
485584148879. 3  
485584148880. 4

Question Number : 525 Question Id : 48558437220 Question Type : MCQ Option Shuffling : No Is Question Mandatory : No Calculator : None  
Response Time : N.A Think Time : N.A Minimum Instruction Time : 0  
Correct Marks : 5 Wrong Marks : 1

Question Key Details :

Key	Value
Comprehension	MCQ

सूची I का सूची II से मिलान कीजिए:

सूची I		सूची II	
A.	गर्म हवा	I.	उर्वशी बूटालिया
B.	सारे जहाँ से अच्छा हिन्दोस्ताँ हमारा	II.	खुशदेव सिंह
C.	द अदर साइड ऑफ साइलेंस	III.	बंटवारे पर बनी एक फिल्म
D.	लव इज़ स्ट्रॉंगर देन हेट: रेमेम्बरेंस ऑफ़ 1947	IV.	मोहम्मद इकबाल

निम्नलिखित विकल्पों में से सही उत्तर का चयन कीजिए :

1. A-III, B-I, C-II, D-IV
2. A-I, B-II, C-III, D-IV
3. A-I, B-III, C-IV, D-II
4. A-III, B-IV, C-I, D-II

Options :

485584148877. 1  
485584148878. 2  
485584148879. 3  
485584148880. 4

Sub-Section Number :

2

Sub-Section Id :

4855842818

Question Shuffling Allowed :

No

Is Section Default? :

null

Question Number : 526 Question Id : 48558437221 Question Type : MCQ Option Shuffling : No Is Question Mandatory : No Calculator : None  
Response Time : N.A Think Time : N.A Minimum Instruction Time : 0  
Correct Marks : 5 Wrong Marks : 1

**Question Key Details :**

Key	Value
Comprehension	Comp1

**Read the passage and answer the questions:**

When debts mounted the peasant was unable to pay back the loan to the moneylender. He had no option but to give over all his possessions - land, carts, and animals - to the moneylender. But without animals he could not continue to cultivate. So he took land on rent and animals on hire. He now had to pay for the animals which had originally belonged to him. He had to sign a deed of hire stating very clearly that these animals and carts did not belong to him. In cases of conflict, these deeds could be enforced through the court.

The following is the text of a deed that a peasant signed in November 1873, from the records of a Deccan Riots Commission:

I have sold to you, on account of the debt due to you, my two carriages having iron axles, with their appurtenances and four bullocks... I have taken from you on hire under (this) deed the very same two carriages and four bullocks. I shall pay every month the hire thereof at Rupees four a month, and obtain a receipt in your own handwriting. In the absence of a receipt I shall not contend that the hire had been paid.

Identify from the following options the main reason for the deeds of hire being considered important.

1. Details of the animals were mentioned.
2. Details of the carts were mentioned.
3. Deeds could be enforced through the court.
4. Deeds were signed by the king.

**Options :**

- 485584148881. 1
- 485584148882. 2
- 485584148883. 3
- 485584148884. 4

Question Number : 526 Question Id : 48558437221 Question Type : MCQ Option Shuffling : No Is Question Mandatory : No Calculator : None  
Response Time : N.A Think Time : N.A Minimum Instruction Time : 0

Correct Marks : 5 Wrong Marks : 1

**Question Key Details :**

Key	Value
Comprehension	Comp1

### निम्न गद्यांश को पढ़कर प्रश्नों के उत्तर दीजिए:

जब किसान पर ऋण का भार बहुत बढ़ गया तो वह ऋणदाता का ऋण चुकाने में असमर्थ हो गया। अब ऋणदाता के पास अपना सर्वस्व-जमीन, गाड़ियाँ, पशुधन के अलावा कोई चारा नहीं था। लेकिन पशुओं के बिना वह आगे खेती कैसे कर सकता था। इसलिए उसने जमीन और पशु भाड़े पर ले लिए। अब उसे उन पशुओं के लिए, जो मूल रूप से उसके अपने ही थे, भाड़ा चुकाना पड़ता था। उसे एक भाड़ा-पत्र (किरायानामा) लिखना पड़ता था जिसमें यह साफतौर पर कहा जाता था कि ये पशु और गाड़ियाँ उसकी अपनी नहीं है। विवाद छिड़ने पर, ये दस्तावेज़ न्यायालयों में मान्य होते थे।

नीचे ऐसे ही दस्तावेज़ का नमूना दिया गया है जो नवंबर 1873 में एक किसान ने हस्ताक्षरित किया था (यह दक्कन दंगा आयोग के अभिलेखों से उद्धृत है):

मैंने आपको देय ऋण खाते में, आपको अपनी लोहे के धुरों वाली दो गाड़ियाँ, साज-समान और चार बैलों के साथ बेची हैं... मैंने इस दस्तावेज़ के तहत उन्हीं दो गाड़ियों और चार बैलों को आपसे भाड़े पर लिया है। मैं हर माह आपको चार रुपये प्रतिमाह की दर से उनका किराया (भाड़ा) दूँगा और आपसे आपकी अपनी लिखावट में रसीद प्राप्त करूँगा। रसीद न मिलने पर मैं यह दलील नहीं दूँगा कि किराया नहीं चुकाया गया है।

निम्नलिखित विकल्पों में से भाड़ा-पत्र को महत्वपूर्ण माने जाने के मुख्य कारण की पहचान कीजिए।

1. इनमें पशुओं के विवरण का उल्लेख था।
2. इनमें गाड़ियों के विवरण का उल्लेख था।
3. भाड़ा-पत्रों को अदालत के जरिये लागू कराया जा सकता था।
4. भाड़ा-पत्रों पर राजा के हस्ताक्षर थे।

Options :

485584148881. 1
485584148882. 2
485584148883. 3
485584148884. 4

Question Number : 527 Question Id : 48558437222 Question Type : MCQ Option Shuffling : No Is Question Mandatory : No Calculator : None  
Response Time : N.A Think Time : N.A Minimum Instruction Time : 0  
Correct Marks : 5 Wrong Marks : 1  
Question Key Details :

Key	Value
Comprehension	Compl

**Read the passage and answer the questions:**

When debts mounted the peasant was unable to pay back the loan to the moneylender. He had no option but to give over all his possessions - land, carts, and animals - to the moneylender. But without animals he could not continue to cultivate. So he took land on rent and animals on hire. He now had to pay for the animals which had originally belonged to him. He had to sign a deed of hire stating very clearly that these animals and carts did not belong to him. In cases of conflict, these deeds could be enforced through the court.

The following is the text of a deed that a peasant signed in November 1873, from the records of a Deccan Riots Commission:

I have sold to you, on account of the debt due to you, my two carriages having iron axles, with their appurtenances and four bullocks... I have taken from you on hire under (this) deed the very same two carriages and four bullocks. I shall pay every month the hire thereof at Rupees four a month, and obtain a receipt in your own handwriting. In the absence of a receipt I shall not contend that the hire had been paid.

Which of the following was not included in the deed mentioned in the passage?

1. Two carriages having iron axles.
2. Four Bullocks.
3. Payment of rupees four.
4. Name of the family members.

**Options :**

485584148885. 1  
485584148886. 2  
485584148887. 3  
485584148888. 4

**Question Number : 527 Question Id : 48558437222 Question Type : MCQ Option Shuffling : No Is Question Mandatory : No Calculator : None Response Time : N.A Think Time : N.A Minimum Instruction Time : 0**

**Correct Marks : 5 Wrong Marks : 1**

**Question Key Details :**

Key	Value
Comprehension	Comp1

**निम्न गद्यांश को पढ़कर प्रश्नों के उत्तर दीजिए:**

जब किसान पर ऋण का भार बहुत बढ़ गया तो वह ऋणदाता का ऋण चुकाने में असमर्थ हो गया। अब ऋणदाता के पास अपना सर्वस्व-जमीन, गाड़ियाँ, पशुधन के अलावा कोई चारा नहीं था। लेकिन पशुओं के बिना वह आगे खेती कैसे कर सकता था। इसलिए उसने जमीन और पशु भाड़े पर ले लिए। अब उसे उन पशुओं के लिए, जो मूल रूप से उसके अपने ही थे, भाड़ा चुकाना पड़ता था। उसे एक भाड़ा-पत्र (किरायानामा) लिखना पड़ता था जिसमें यह साफतौर पर कहा जाता था कि ये पशु और गाड़ियाँ उसकी अपनी नहीं हैं। विवाद छिड़ने पर, ये दस्तावेज़ न्यायालयों में मान्य होते थे।

नीचे ऐसे ही दस्तावेज़ का नमूना दिया गया है जो नवंबर 1873 में एक किसान ने हस्ताक्षरित किया था (यह दक्कन दंगा आयोग के अभिलेखों से उद्धृत है):

मैंने आपको देय ऋण खाते में, आपको अपनी लोहे के धुरों वाली दो गाड़ियाँ, साज-समान और चार बैलों के साथ बेची हैं... मैंने इस दस्तावेज़ के तहत उन्हीं दो गाड़ियों और चार बैलों को आपसे भाड़े पर लिया है। मैं हर माह आपको चार रुपये प्रतिमाह की दर से उनका किराया (भाड़ा) दूँगा और आपसे आपकी अपनी लिखावट में रसीद प्राप्त करूँगा। रसीद न मिलाने पर मैं यह दलील नहीं दूँगा कि किराया नहीं चुकाया गया है।

गद्यांश में उल्लेखित भाड़ा-पत्र में निम्न में से क्या शामिल नहीं था?

1. लोहे के धारों वाली दो गाड़ियाँ।
2. चार बैला।
3. चार रुपये की अदायगी।
4. परिवार सदस्यों के नाम।

**Options :**

485584148885. 1  
485584148886. 2  
485584148887. 3  
485584148888. 4

**Question Number : 528 Question Id : 48558437223 Question Type : MCQ Option Shuffling : No Is Question Mandatory : No Calculator : None Response Time : N.A Think Time : N.A Minimum Instruction Time : 0**

**Correct Marks : 5 Wrong Marks : 1**

**Question Key Details :**

Key	Value
Comprehension	Comp1

**Read the passage and answer the questions:**

When debts mounted the peasant was unable to pay back the loan to the moneylender. He had no option but to give over all his possessions - land, carts, and animals - to the moneylender. But without animals he could not continue to cultivate. So he took land on rent and animals on hire. He now had to pay for the animals which had originally belonged to him. He had to sign a deed of hire stating very clearly that these animals and carts did not belong to him. In cases of conflict, these deeds could be enforced through the court.

The following is the text of a deed that a peasant signed in November 1873, from the records of a Deccan Riots Commission:

I have sold to you, on account of the debt due to you, my two carriages having iron axles, with their appurtenances and four bullocks... I have taken from you on hire under (this) deed the very same two carriages and four bullocks. I shall pay every month the hire thereof at Rupees four a month, and obtain a receipt in your own handwriting. In the absence of a receipt I shall not contend that the hire had been paid.

Identify the reason from the given options why the peasant had to give up all his possession to the moneylender?

1. This was the practise followed in the society.
2. It was the rule introduced by the British.
3. The peasant was unable to pay back the loan of the moneylender.
4. All his possessions were old and he wanted to buy new ones.

**Options :**

485584148889. 1  
485584148890. 2  
485584148891. 3  
485584148892. 4

**Question Number : 528 Question Id : 48558437223 Question Type : MCQ Option Shuffling : No Is Question Mandatory : No Calculator : None Response Time : N.A Think Time : N.A Minimum Instruction Time : 0 Correct Marks : 5 Wrong Marks : 1**

**Question Key Details :**

Key	Value
Comprehension	Comp1

**निम्न गद्यांश को पढ़कर प्रश्नों के उत्तर दीजिए:**

जब किसान पर ऋण का भार बहुत बढ़ गया तो वह ऋणदाता का ऋण चुकाने में असमर्थ हो गया। अब ऋणदाता के पास अपना सर्वस्व-जमीन, गाड़ियाँ, पशुधन के अलावा कोई चारा नहीं था। लेकिन पशुओं के बिना वह आगे खेती कैसे कर सकता था। इसलिए उसने जमीन और पशु भाड़े पर ले लिए। अब उसे उन पशुओं के लिए, जो मूल रूप से उसके अपने ही थे, भाड़ा चुकाना पड़ता था। उसे एक भाड़ा-पत्र (किरायानामा) लिखना पड़ता था जिसमें यह साफतौर पर कहा जाता था कि ये पशु और गाड़ियाँ उसकी अपनी नहीं हैं। विवाद छिड़ने पर, ये दस्तावेज़ न्यायालयों में मान्य होते थे।

नीचे ऐसे ही दस्तावेज़ का नमूना दिया गया है जो नवंबर 1873 में एक किसान ने हस्ताक्षरित किया था (यह दक्कन दंगा आयोग के अभिलेखों से उद्धृत है):

मैंने आपको देय ऋण खाते में, आपको अपनी लोहे के धुरी वाली दो गाड़ियाँ, साज-समान और चार बैलों के साथ बेची हैं... मैंने इस दस्तावेज़ के तहत उन्हीं दो गाड़ियों और चार बैलों को आपसे भाड़े पर लिया है। मैं हर माह आपको चार रुपए प्रतिमाह की दर से उनका किराया (भाड़ा) दूँगा और आपसे आपकी अपनी लिखावट में रसीद प्राप्त करूँगा। रसीद न मिलने पर मैं यह दलील नहीं दूँगा कि किराया नहीं चुकाया गया है।

निम्न विकल्पों में से उस कारण की पहचान कीजिए जिसके कारण किसान को अपना सब कुछ ऋणदाता को क्यों देना पड़ा?

1. समाज में यही प्रथा थी।
2. यह ब्रिटिश द्वारा लागू नियम था।
3. किसान ऋणदाता का ऋण चुकाने में असमर्थ था।
4. उसका सारा सामान पुराना था और वह नया खरीदना चाहता था।

**Options :**

485584148889. 1  
485584148890. 2  
485584148891. 3  
485584148892. 4

**Question Number : 529 Question Id : 48558437224 Question Type : MCQ Option Shuffling : No Is Question Mandatory : No Calculator : None Response Time : N.A Think Time : N.A Minimum Instruction Time : 0**

**Correct Marks : 5 Wrong Marks : 1**

**Question Key Details :**

Key	Value
Comprehension	Comp1

**Read the passage and answer the questions:**

When debts mounted the peasant was unable to pay back the loan to the moneylender. He had no option but to give over all his possessions - land, carts, and animals - to the moneylender. But without animals he could not continue to cultivate. So he took land on rent and animals on hire. He now had to pay for the animals which had originally belonged to him. He had to sign a deed of hire stating very clearly that these animals and carts did not belong to him. In cases of conflict, these deeds could be enforced through the court.

The following is the text of a deed that a peasant signed in November 1873, from the records of a Deccan Riots Commission:

I have sold to you, on account of the debt due to you, my two carriages having iron axles, with their appurtenances and four bullocks... I have taken from you on hire under (this) deed the very same two carriages and four bullocks. I shall pay every month the hire thereof at Rupees four a month, and obtain a receipt in your own handwriting. In the absence of a receipt I shall not contend that the hire had been paid.

From the given options select the reason that made the peasant to take land on rent and animals on hire from the moneylender.

1. The peasant required land and animals to cultivate and survive.
2. The peasant used to earn by selling the land and animals.
3. It was compulsory for the peasants to take land and animals from the moneylenders.
4. Moneylenders were the only people who used to sell animals and land.

**Options :**

485584148893. 1  
485584148894. 2  
485584148895. 3  
485584148896. 4

**Question Number : 529 Question Id : 48558437224 Question Type : MCQ Option Shuffling : No Is Question Mandatory : No Calculator : None Response Time : N.A Think Time : N.A Minimum Instruction Time : 0**

**Correct Marks : 5 Wrong Marks : 1**



**Question Key Details :**

Key	Value
Comprehension	Comp1

**निम्न गद्यांश को पढ़कर प्रश्नों के उत्तर दीजिए:**

जब किसान पर ऋण का भार बहुत बढ़ गया तो वह ऋणदाता का ऋण चुकाने में असमर्थ हो गया। अब ऋणदाता के पास अपना सर्वस्व-जमीन, गाड़ियाँ, पशुधन के अलावा कोई चारा नहीं था। लेकिन पशुओं के बिना वह आगे खेती कैसे कर सकता था। इसलिए उसने जमीन और पशु भाड़े पर ले लिए। अब उसे उन पशुओं के लिए, जो मूल रूप से उसके अपने ही थे, भाड़ा चुकाना पड़ता था। उसे एक भाड़ा-पत्र (किरायानामा) लिखना पड़ता था जिसमें यह साफतौर पर कहा जाता था कि ये पशु और गाड़ियाँ उसकी अपनी नहीं हैं। विवाद छिड़ने पर, ये दस्तावेज़ न्यायालयों में मान्य होते थे।

नीचे ऐसे ही दस्तावेज़ का नमूना दिया गया है जो नवंबर 1873 में एक किसान ने हस्ताक्षरित किया था (यह दक्कन दंगा आयोग के अभिलेखों से उद्धृत है):

मैंने आपको देय ऋण खाते में, आपको अपनी लोहे के धुरों वाली दो गाड़ियाँ, साज-समान और चार बैलों के साथ बेची हैं... मैंने इस दस्तावेज़ के तहत उन्हीं दो गाड़ियों और चार बैलों को आपसे भाड़े पर लिया है। मैं हर माह आपको चार रुपए प्रतिमाह की दर से उनका किराया (भाड़ा) दूँगा और आपसे आपकी अपनी लिखावट में रसीद प्राप्त करूँगा। रसीद न मिलाने पर मैं यह दलील नहीं दूँगा कि किराया नहीं चुकाया गया है।

निम्न विकल्पों में से उस विकल्प को चुनिए जिसके कारण किसान को भूमि और पशु ऋणदाता से किराए पर लेना पड़ा।

1. किसान को खेती करने व जीवित रहने के लिए भूमि व पशुओं की आवश्यकता थी।
2. किसान भूमि व पशु बेचकर आय अर्जित किया करता था।
3. किसान के लिए ऋणदाता से भूमि व पशु लेना अनिवार्य था।
4. केवल ऋणदाता ही पशु व भूमि बेचने का काम करते थे।

**Options :**

485584148893. 1

485584148894. 2

485584148895. 3

485584148896. 4

Question Number : 530 Question Id : 48558437225 Question Type : MCQ Option Shuffling : No Is Question Mandatory : No Calculator : None Response Time : N.A Think Time : N.A Minimum Instruction Time : 0

Correct Marks : 5 Wrong Marks : 1

**Question Key Details :**

Key	Value
Comprehension	Comp1

**Read the passage and answer the questions:**

When debts mounted the peasant was unable to pay back the loan to the moneylender. He had no option but to give over all his possessions - land, carts, and animals - to the moneylender. But without animals he could not continue to cultivate. So he took land on rent and animals on hire. He now had to pay for the animals which had originally belonged to him. He had to sign a deed of hire stating very clearly that these animals and carts did not belong to him. In cases of conflict, these deeds could be enforced through the court.

The following is the text of a deed that a peasant signed in November 1873, from the records of a Deccan Riots Commission:

I have sold to you, on account of the debt due to you, my two carriages having iron axles, with their appurtenances and four bullocks... I have taken from you on hire under (this) deed the very same two carriages and four bullocks. I shall pay every month the hire thereof at Rupees four a month, and obtain a receipt in your own handwriting. In the absence of a receipt I shall not contend that the hire had been paid.

Select the option which **correctly** describe the relationship between the peasant and the moneylender.

1. Exploitative
2. Supportive
3. Helping
4. Father-figure

**Options :**

485584148897. 1

485584148898. 2

485584148899. 3

485584148900. 4

**Question Number : 530 Question Id : 48558437225 Question Type : MCQ Option Shuffling : No Is Question Mandatory : No Calculator : None Response Time : N.A Think Time : N.A Minimum Instruction Time : 0**

**Correct Marks : 5 Wrong Marks : 1**

**Question Key Details :**

Key	Value
Comprehension	Comp1

**निम्न गद्यांश को पढ़कर प्रश्नों के उत्तर दीजिए:**

जब किसान पर ऋण का भार बहुत बढ़ गया तो वह ऋणदाता का ऋण चुकाने में असमर्थ हो गया। अब ऋणदाता के पास अपना सर्वस्व-जमीन, गाड़ियाँ, पशुधन के अलावा कोई चारा नहीं था। लेकिन पशुओं के बिना वह आगे खेती कैसे कर सकता था। इसलिए उसने जमीन और पशु भाड़े पर ले लिए। अब उसे उन पशुओं के लिए, जो मूल रूप से उसके अपने ही थे, भाड़ा चुकाना पड़ता था। उसे एक भाड़ा-पत्र (किरायानामा) लिखना पड़ता था जिसमें यह साफतौर पर कहा जाता था कि ये पशु और गाड़ियाँ उसकी अपनी नहीं हैं। विवाद छिड़ने पर, ये दस्तावेज़ न्यायालयों में मान्य होते थे।

नीचे ऐसे ही दस्तावेज़ का नमूना दिया गया है जो नवंबर 1873 में एक किसान ने हस्ताक्षरित किया था (यह दक्कन दंगा आयोग के अभिलेखों से उद्धृत है):

मैंने आपको देय ऋण खाते में, आपको अपनी लोहे के धुरी वाली दो गाड़ियाँ, साज़-समान और चार बैलों के साथ बेची हैं... मैंने इस दस्तावेज़ के तहत उन्हीं दो गाड़ियों और चार बैलों को आपसे भाड़े पर लिया है। मैं हर माह आपको चार रुपए प्रतिमाह की दर से उनका किराया (भाड़ा) दूँगा और आपसे आपकी अपनी लिखावट में रसीद प्राप्त करूँगा। रसीद न मिलने पर मैं यह दलील नहीं दूँगा कि किराया नहीं चुकाया गया है।

निम्न में से उस विकल्प को चुनिए जो किसान और ऋणदाता के बीच के सम्बन्ध का सही वर्णन करता है।

1. शोषी
2. समर्थक
3. सहायक
4. पितृ तुल्य

**Options :**

485584148897. 1  
485584148898. 2  
485584148899. 3  
485584148900. 4

**Sub-Section Number :**

3

**Sub-Section Id :**

4855842819

**Question Shuffling Allowed :**

No

**Is Section Default? :**

null

**Question Number : 531 Question Id : 48558437226 Question Type : MCQ Option Shuffling : No Is Question Mandatory : No Calculator : None Response Time : N.A Think Time : N.A Minimum Instruction Time : 0**

**Correct Marks : 5 Wrong Marks : 1**

**Question Key Details :**

Key	Value
Comprehension	Comp2

**Read the passage and answer the questions:**

The constitution of India emerged through a process of intense debate and discussion. Many of its provisions were arrived at through a process of give-and-take, by forging a middle ground between two opposed positions. However, on one central feature of the constitution there was substantial agreement. This was on the granting of the vote to every adult Indian. This was an unprecedented act of faith. A second important feature of the constitution was its emphasis on secularism in the preamble, but operationally, its key features as understood in Indian contexts were spelled out in an exemplary manner. This was done through the carefully drafted series of fundamental rights.

Which of the following term was **NOT** a part of the "Objective Resolution"?

1. Independent
2. Sovereign
3. Republic
4. Secular

**Options :**

485584148901. 1  
485584148902. 2  
485584148903. 3  
485584148904. 4

**Question Number : 531 Question Id : 48558437226 Question Type : MCQ Option Shuffling : No Is Question Mandatory : No Calculator : None Response Time : N.A Think Time : N.A Minimum Instruction Time : 0**

**Correct Marks : 5 Wrong Marks : 1**

**Question Key Details :**

Key	Value
Comprehension	Comp2

### निम्न गद्यांश को पढ़िए, प्रश्न का उत्तर दीजिए :

भारत का संविधान गहन विवादों और परिचर्चाओं से गुजरते हुए बना। उसके कई प्रावधान लेन-देन की प्रक्रिया के ज़रिए बनाए गए थे। उन पर सहमति तब बन पाई जब सदस्यों ने दो विरोधी विचारों के बीच की ज़मीन तैयार कर ली। परंतु संविधान के एक केंद्रीय अभिलक्षण पर काफी हद तक सहमति थी। यह सहमति प्रत्येक वयस्क भारतीय को मताधिकार देने पर थी। इसके पीछे एक खास किस्म का भरोसा था। हमारे संविधान का दूसरा महत्वपूर्ण अभिलक्षण था धर्मनिरपेक्षता पर बल। संविधान की प्रस्तावना में धर्मनिरपेक्षता के गुण तो नहीं गाए गए थे परंतु संविधान व समाज को चलाने के लिए भारतीय संदर्भों में उसके मुख्य अभिलक्षणों का ज़िद्ध आदर्श रूप में किया गया था। ऐसा मूल अधिकारों की मूखला को रचने के ज़रिए किया गया।

निम्नलिखित में से कौन सा पद "उद्देश्य प्रस्ताव" का भाग नहीं था?

1. स्वतंत्र
2. संप्रभु
3. गणराज्य
4. धर्मनिरपेक्ष

#### Options :

485584148901. 1
485584148902. 2
485584148903. 3
485584148904. 4

Question Number : 532 Question Id : 48558437227 Question Type : MCQ Option Shuffling : No Is Question Mandatory : No Calculator : None Response Time : N.A Think Time : N.A Minimum Instruction Time : 0 Correct Marks : 5 Wrong Marks : 1

#### Question Key Details :

Key	Value
Comprehension	Comp2

#### Read the passage and answer the questions:

The constitution of India emerged through a process of intense debate and discussion. Many of its provisions were arrived at through a process of give-and-take, by forging a middle ground between two opposed positions. However, on one central feature of the constitution there was substantial agreement. This was on the granting of the vote to every adult Indian, this was an unprecedented act of faith. A second important feature of the constitution was its emphasis on secularism in the preamble, but operationally, its key features as understood in Indian contexts were spelled out in an exemplary manner. This was done through the carefully drafted series of fundamental rights.

Which of the following Articles protect the 'cultural and educational rights' of the people of India?

1. Articles 25-26
2. Articles 27-28
3. Articles 29-30
4. Articles 16-17

#### Options :

485584148905. 1
485584148906. 2
485584148907. 3
485584148908. 4

Question Number : 532 Question Id : 48558437227 Question Type : MCQ Option Shuffling : No Is Question Mandatory : No Calculator : None  
Response Time : N.A Think Time : N.A Minimum Instruction Time : 0  
Correct Marks : 5 Wrong Marks : 1  
Question Key Details :

Key	Value
Comprehension	Comp2

**निम्न गद्यांश को पढ़िए, प्रश्न का उत्तर दीजिए :**

भारत का संविधान गहन विवादों और परिचर्चाओं से गुजरते हुए बना। उसके कई प्रावधान लेन-देन की प्रक्रिया के ज़रिए बनाए गए थे। उन पर सहमति तब बन पाई जब सदस्यों ने दो विरोधी विचारों के बीच की ज़मीन तैयार कर ली। परंतु संविधान के एक केंद्रीय अभिलक्षण पर काफी हद तक सहमति थी। यह सहमति प्रत्येक व्यक्ति भारतीय को मताधिकार देने पर थी। इसके पीछे एक खास किस्म का भरोसा था। हमारे संविधान का दूसरा महत्वपूर्ण अभिलक्षण था धर्मनिरपेक्षता पर बल। संविधान की प्रस्तावना में धर्मनिरपेक्षता के गुण तो नहीं गए थे परंतु संविधान व समाज को चलाने के लिए भारतीय संदर्भों में उसके मुख्य अभिलक्षणों का ज़िक्र आदर्श रूप में किया गया था। ऐसा मूल अधिकारों की भृंखला को रचने के ज़रिए किया गया।

निम्नलिखित में से कौन से अनुच्छेद भारत की जनता के सांस्कृतिक व शैक्षिक अधिकारों का संरक्षण करते हैं?

1. अनुच्छेद 25-26
2. अनुच्छेद 27-28
3. अनुच्छेद 29-30
4. अनुच्छेद 16-17

**Options :**

485584148905. 1  
485584148906. 2  
485584148907. 3  
485584148908. 4

Question Number : 533 Question Id : 48558437228 Question Type : MCQ Option Shuffling : No Is Question Mandatory : No Calculator : None  
Response Time : N.A Think Time : N.A Minimum Instruction Time : 0  
Correct Marks : 5 Wrong Marks : 1  
Question Key Details :

Key	Value
Comprehension	Comp2

**Read the passage and answer the questions:**

The constitution of India emerged through a process of intense debate and discussion. Many of its provisions were arrived at through a process of give-and-take, by forging a middle ground between two opposed positions. However, on one central feature of the constitution there was substantial agreement. This was on the granting of the vote to every adult Indian, this was an unprecedented act of faith. A second important feature of the constitution was its emphasis on secularism in the preamble, but operationally, its key features as understood in Indian contexts were spelled out in an exemplary manner. This was done through the carefully drafted series of fundamental rights.

Arrange the following in a chronological order.

- A. Muslims League demands dissolution of the Constituent Assembly.
- B. General elections in India for Provincial Legislatures to elect representatives to the Constituent Assembly.
- C. First session of the Constituent Assembly.
- D. Introduction of the "Objectives Resolution" in the Constituent Assembly.
- E. Cabinet Mission announces its constitutional scheme.

Choose the correct answer from the options given below:

- 1. C, E, B, A, D
- 2. B., E, C, D, A
- 3. A, D, C, E, B
- 4. E, B, A, C, D

Options :

- 485584148909. 1
- 485584148910. 2
- 485584148911. 3
- 485584148912. 4

Question Number : 533 Question Id : 48558437228 Question Type : MCQ Option Shuffling : No Is Question Mandatory : No Calculator : None Response Time : N.A Think Time : N.A Minimum Instruction Time : 0

Correct Marks : 5 Wrong Marks : 1

Question Key Details :

Key	Value
Comprehension	Comp2

**निम्न गद्यांश को पढ़िए, प्रश्न का उत्तर दीजिए :**

भारत का संविधान गहन विवादों और परिचर्याओं से गुजरते हुए बना। उसके कई प्रावधान लेन-देन की प्रक्रिया के ज़रिए बनाए गए थे। उन पर सहमति तब बन पाई जब सदस्यों ने दो विरोधी विचारों के बीच की ज़मीन तैयार कर ली। परंतु संविधान के एक केंद्रीय अभिलक्षण पर काफी हद तक सहमति थी। यह सहमति प्रत्येक व्यस्क भारतीय को मताधिकार देने पर थी। इसके पीछे एक ख़ास किस्म का भरोसा था। हमारे संविधान का दूसरा महत्वपूर्ण अभिलक्षण था धर्मनिरपेक्षता पर बल। संविधान की प्रस्तावना में धर्मनिरपेक्षता के गुण तो नहीं गए गए थे परंतु संविधान व समाज को चलाने के लिए भारतीय संदर्भों में उसके मुख्य अभिलक्षणों का ज़िक्र आदर्श रूप में किया गया था। ऐसा मूल अधिकारों की मूखला को रचने के ज़रिए किया गया।

निम्नलिखित को कालक्रमानुसार व्यवस्थित कीजिए :

- A. मुस्लिम लीग संविधान सभा को भंग करने की मांग करती है।
- B. भारत में संविधान सभा हेतु प्रतिनिधियों के निर्वाचन हेतु प्रांतीय विधानमंडलों के लिए आम चुनाव।
- C. संविधान सभा का पहला सत्र अधिवेशन।
- D. संविधान सभा में "उद्देश्य संकल्प" का पुरः स्थापन।
- E. कैबिनेट मिशन अपनी संवैधानिक योजना की घोषणा।

नीचे दिए गए विकल्पों में से **सही** उत्तर का चयन कीजिए:

- 1. C, E, B, A, D
- 2. B., E, C, D, A
- 3. A, D, C, E, B
- 4. E, B, A, C, D

**Options :**

485584148909. 1

485584148910. 2

485584148911. 3

485584148912. 4

**Question Number : 534 Question Id : 48558437229 Question Type : MCQ Option Shuffling : No Is Question Mandatory : No Calculator : None Response Time : N.A Think Time : N.A Minimum Instruction Time : 0**

**Correct Marks : 5 Wrong Marks : 1**

**Question Key Details :**

Key	Value
Comprehension	Comp2

**Read the passage and answer the questions:**

The constitution of India emerged through a process of intense debate and discussion. Many of its provisions were arrived at through a process of give-and-take, by forging a middle ground between two opposed positions. However, on one central feature of the constitution there was substantial agreement. This was on the granting of the vote to every adult Indian, this was an unprecedented act of faith. A second important feature of the constitution was its emphasis on secularism in the preamble, but operationally, its key features as understood in Indian contexts were spelled out in an exemplary manner. This was done through the carefully drafted series of fundamental rights.

Which of the following statements are TRUE regarding the making of the Constituent Assembly?

- A. The members of the Constituent Assembly were elected on the basis of universal franchise.
- B. The Provincial Legislatures chose the representatives of the Constituent Assembly.
- C. The Constituent Assembly that came into being was dominated by no one single party.
- D. The Muslim League choose to boycott the Constituent Assembly, pressing its demand for Pakistan.
- E. The Socialists believed that the Constituent Assembly was a creation of the British, and therefore incapable of being truly autonomous.

Choose the **correct** answer from the options given below:

- 1. E, B, C Only
- 2. A, C, D Only
- 3. B, D, E Only
- 4. C, E, A Only

**Options :**

485584148913. 1

485584148914. 2

485584148915. 3

485584148916. 4

**Question Number : 534 Question Id : 48558437229 Question Type : MCQ Option Shuffling : No Is Question Mandatory : No Calculator : None Response Time : N.A Think Time : N.A Minimum Instruction Time : 0**

**Correct Marks : 5 Wrong Marks : 1**

**Question Key Details :**

Key	Value
Comprehension	Comp2

### निम्न गद्यांश को पढ़िए, प्रश्न का उत्तर दीजिए :

भारत का संविधान गहन विवादों और परिचर्याओं से गुज़रते हुए बना। उसके कई प्रावधान लेन-देन की प्रक्रिया के ज़रिए बनाए गए थे। उन पर सहमति तब बन पाई जब सदस्यों ने दो विरोधी विचारों के बीच की ज़मीन तैयार कर ली। परंतु संविधान के एक केंद्रीय अभिलक्षण पर काफी हद तक सहमति थी। यह सहमति प्रत्येक व्यस्क भारतीय को मताधिकार देने पर थी। इसके पीछे एक ख़ास किस्म का भरोसा था। हमारे संविधान का दूसरा महत्वपूर्ण अभिलक्षण था धर्मनिरपेक्षता पर बल। संविधान की प्रस्तावना में धर्मनिरपेक्षता के गुण तो नहीं गए गए थे परंतु संविधान व समाज को चलाने के लिए भारतीय संदर्भों में उसके मुख्य अभिलक्षणों का ज़िद्ध आदर्श रूप में किया गया था। ऐसा मूल अधिकारों की मृखला को रचने के ज़रिए किया गया।

संविधान सभा बनाए जाने के सम्बन्ध में निम्न में से कौन से कथन **सही** है?

- A. संविधान सभा के सदस्य सर्वभौमिक मताधिकार के आधार पर चुने गए थे।
- B. प्रांतीय सांसदों ने संविधान सभा के प्रतिनिधियों का चयन किया था।
- C. संविधान सभा में किसी एक पार्टी का प्रभाव नहीं था।
- D. मुस्लिम लीग ने पाकिस्तान की मांग पर जोर देते हुए संविधान सभा का बहिष्कार किया था।
- E. समाजवादियों का विश्वास था कि संविधान सभा अंग्रेजों की रचना है और इसलिए यह सही मायने में वाकई स्वायत्त नहीं हो सकती है।

नीचे दिए गए विकल्पों में से **सही** उत्तर का चयन कीजिए-

- 1. केवल E, B, C
- 2. केवल A, C, D
- 3. केवल B, D, E
- 4. केवल C, E, A

#### Options :

- 485584148913. 1
- 485584148914. 2
- 485584148915. 3
- 485584148916. 4

Question Number : 535 Question Id : 48558437230 Question Type : MCQ Option Shuffling : No Is Question Mandatory : No Calculator : None  
Response Time : N.A Think Time : N.A Minimum Instruction Time : 0

Correct Marks : 5 Wrong Marks : 1

Question Key Details :

Key	Value
Comprehension	Comp2

#### Read the passage and answer the questions:

The constitution of India emerged through a process of intense debate and discussion. Many of its provisions were arrived at through a process of give-and-take, by forging a middle ground between two opposed positions. However, on one central feature of the constitution there was substantial agreement. This was on the granting of the vote to every adult Indian. This was an unprecedented act of faith. A second important feature of the constitution was its emphasis on secularism in the preamble, but operationally, its key features as understood in Indian contexts were spelled out in an exemplary manner. This was done through the carefully drafted series of fundamental rights.



Match List I with List II:

LIST I		LIST II	
A.	Jawaharlal Nehru	I.	Constitutional Advisor
B.	Rajendra Prasad	II.	Objectives Resolution
C.	Bhimrao Ramji Ambedkar	III.	President of the Constituent Assembly
D.	B.N. Rau	IV.	Chairman of the Drafting Committee of the Constitution

Choose the correct answer from the options given below:

1. A-IV, B-III, C-II, D-I
2. A-I, B-II, C-III, D-IV
3. A-III, B-II, C-I, D-IV
4. A-II, B-III, C-IV, D-I

**Options :**

485584148917. 1  
485584148918. 2  
485584148919. 3  
485584148920. 4

Question Number : 535 Question Id : 48558437230 Question Type : MCQ Option Shuffling : No Is Question Mandatory : No Calculator : None Response Time : N.A Think Time : N.A Minimum Instruction Time : 0

Correct Marks : 5 Wrong Marks : 1

**Question Key Details :**

Key	Value
Comprehension	Comp2

**निम्न गद्यांश को पढ़िए, प्रश्न का उत्तर दीजिए :**

भारत का संविधान गहन विवादों और परिचर्चाओं से गुजरते हुए बना। उसके कई प्रावधान लेन-देन की प्रक्रिया के ज़रिए बनाए गए थे। उन पर सहमति तब बन पाई जब सदस्यों ने दो विरोधी विचारों के बीच की ज़मीन तैयार कर ली। परंतु संविधान के एक केंद्रीय अभिलक्षण पर काफी हद तक सहमति थी। यह सहमति प्रत्येक उपस्क भारतीय को मताधिकार देने पर थी। इसके पीछे एक खास किस्म का भरोसा था। हमारे संविधान का दूसरा महत्वपूर्ण अभिलक्षण था धर्मनिरपेक्षता पर बल। संविधान की प्रस्तावना में धर्मनिरपेक्षता के गुण तो नहीं गाए गए थे परंतु संविधान व समाज को चलाने के लिए भारतीय संदर्भों में उसके मुख्य अभिलक्षणों का ज़िज़्ज आदर्श रूप में किया गया था। ऐसा मूल अधिकारों की शृंखला को रचने के ज़रिए किया गया।

सूची I का सूची II से मिलान कीजिए

सूची I		सूची II	
A.	जवाहरलाल नेहरू	I.	संवैधानिक सलाहकार
B.	राजेंद्र प्रसाद	II.	उद्देश्य प्रस्ताव
C.	भीमराव रामजी अम्बेडकर	III.	संविधान सभा के अध्यक्ष
D.	बी. एन. राव	IV.	संविधान की प्रारूप समिति के अध्यक्ष

निम्नलिखित विकल्पों में से सही उत्तर का चयन कीजिए :

1. A-IV, B-III, C-II, D-I
2. A-I, B-II, C-III, D-IV
3. A-III, B-II, C-I, D-IV
4. A-II, B-III, C-IV, D-I

Options :

485584148917. 1  
485584148918. 2  
485584148919. 3  
485584148920. 4

## Home Science

Group Number :	11
Group Id :	485584860
Group Maximum Duration :	45
Group Minimum Duration :	45
Show Attended Group? :	No
Edit Attended Group? :	No
Break time :	0
Group Marks :	200
Is this Group for Examiner? :	No
Examiner permission :	Cant View
Show Progress Bar? :	No

## Home Science

Section Id :	485584990
Section Number :	1
Section type :	Online
Mandatory or Optional :	Mandatory
Number of Questions :	50
Number of Questions to be attempted :	40
Section Marks :	200
Enable Mark as Answered Mark for Review and Clear Response :	Yes
Maximum Instruction Time :	0
Sub-Section Number :	1
Sub-Section Id :	4855842820
Question Shuffling Allowed :	Yes
Is Section Default? :	null

Question Number : 536 Question Id : 48558437766 Question Type : MCQ Option Shuffling : No Is Question Mandatory : No Calculator : None  
Response Time : N.A Think Time : N.A Minimum Instruction Time : 0  
Correct Marks : 5 Wrong Marks : 1

Question Key Details :

Key	Value
-----	-------

Comprehension	MCQ
---------------	-----

If a manufacturer makes a product for a large multinational corporation but uses lower quality raw material, which of the following consumer problem does it depict?

1. Adulteration
2. Substandard goods
3. Spurious product
4. Incorrect measures

**Options :**

- 485584151061. 1
- 485584151062. 2
- 485584151063. 3
- 485584151064. 4

Question Number : 536 Question Id : 48558437766 Question Type : MCQ Option Shuffling : No Is Question Mandatory : No Calculator : None Response Time : N.A Think Time : N.A Minimum Instruction Time : 0

Correct Marks : 5 Wrong Marks : 1

**Question Key Details :**

Key	Value
Comprehension	MCQ

यदि विनिर्माता बड़ी बहुराष्ट्रीय कोर्पोरेशन के लिए उत्पाद बनाता है, किन्तु निम्न गुणवत्ता वाले कच्चे माल का उपयोग करता है। तो कौन-सी उपभोक्ता समस्या चित्रित की जाती है?

1. मिलावट
2. उपमानक वस्तुएं
3. मिथ्या उत्पाद
4. गलत मापदंड

**Options :**

- 485584151061. 1
- 485584151062. 2
- 485584151063. 3
- 485584151064. 4

Question Number : 536 Question Id : 48558437766 Question Type : MCQ Option Shuffling : No Is Question Mandatory : No Calculator : None Response Time : N.A Think Time : N.A Minimum Instruction Time : 0

Correct Marks : 5 Wrong Marks : 1

**Question Key Details :**

Key	Value
Comprehension	MCQ

ஒரு உற்பத்தியாளர் ஒரு பெரிய பன்னாட்டு நிறுவனத்திற்காக ஒரு தயாரிப்பை உருவாக்குகிறார். ஆனால் குறைந்த தரமான மூலப்பொருட்களைப் பயன்படுத்துகிறார் என்றால், அது பின்வரும் நுகர்வோர் பிரச்சினையை சித்தரிக்கிறது?

1. கலப்படம்
2. தரமற்ற பொருட்கள்
3. ஓபானி தயாரிப்பு
4. தவறான நடவடிக்கைகள்

**Options :**

485584151061. 1

485584151062. 2

485584151063. 3

485584151064. 4

**Question Number : 537 Question Id : 48558437767 Question Type : MCQ Option Shuffling : No Is Question Mandatory : No Calculator : None Response Time : N.A Think Time : N.A Minimum Instruction Time : 0**

**Correct Marks : 5 Wrong Marks : 1**

**Question Key Details :**

Key	Value
Comprehension	MCQ

In the context of Food Safety Management, which of the following is a part of quality assurance to ensure that the manufacturers take proactive steps to ensure safety of their products?

1. Good Manufacturing Practices (GMP)
2. Good Handling Practices (GHP)
3. Hazard Analysis Critical Control Point (HACCP)
4. Critical Path Method (CPM)

**Options :**

485584151065. 1

485584151066. 2

485584151067. 3

485584151068. 4

**Question Number : 537 Question Id : 48558437767 Question Type : MCQ Option Shuffling : No Is Question Mandatory : No Calculator : None Response Time : N.A Think Time : N.A Minimum Instruction Time : 0**

**Correct Marks : 5 Wrong Marks : 1**

**Question Key Details :**

Key	Value
Comprehension	MCQ

खाद्य सुरक्षा प्रबंधन के संदर्भ में, निम्न में से कौन-सा गुणवत्ता आश्वासन जो विनिर्माता अपने उत्पाद की सुरक्षा निश्चित करने में सतर्कता लेने में निश्चित करता है।

1. उत्तम विनिर्माण प्रयास (GMP)
2. उत्तम संभाल प्रयास (GHP)
3. संकट अनुमापन क्रान्तिक नियन्त्रण बिन्दु (HACCP)
4. क्रान्तिक पाथ विधि (CPM)

**Options :**

485584151065. 1  
 485584151066. 2  
 485584151067. 3  
 485584151068. 4

**Question Number : 537 Question Id : 48558437767 Question Type : MCQ Option Shuffling : No Is Question Mandatory : No Calculator : None Response Time : N.A Think Time : N.A Minimum Instruction Time : 0 Correct Marks : 5 Wrong Marks : 1**

**Question Key Details :**

Key	Value
Comprehension	MCQ

உணவுப் பாதுகாப்பு மேலாண்மையின் பின்னணியில், உற்பத்தியாளர்கள் தங்கள் தயாரிப்புகளின் பாதுகாப்பை உறுதி செய்ய ஆக்கப்பூர்வமான நடவடிக்கைகளை எடுப்பதை உறுதி செய்வதற்கான தர உத்தரவாதத்தின் ஒரு பகுதியாக பின்வருவனவற்றில் எது உள்ளது?

1. நல்ல உற்பத்தி நடைமுறைகள் (GMP)
2. நல்ல கையாளுதல் நடைமுறைகள் (GHP)
3. ஆபத்து பகுப்பாய்வு சிக்கலான கட்டுப்பாட்டு புள்ளி (எச்.ஏ.சி.சி.பி)
4. விமர்சன பாதை முறை (சிபிஎம்)

**Options :**

485584151065. 1  
 485584151066. 2  
 485584151067. 3  
 485584151068. 4

**Question Number : 538 Question Id : 48558437768 Question Type : MCQ Option Shuffling : No Is Question Mandatory : No Calculator : None Response Time : N.A Think Time : N.A Minimum Instruction Time : 0**

**Correct Marks : 5 Wrong Marks : 1**

**Question Key Details :**

Key	Value
Comprehension	MCQ

Which type of balance gives a feeling of stability, dignity and formality?

1. Radial balance
2. Non-formal balance
3. Formal balance
4. Horizontal balance

**Options :**

485584151069. 1  
 485584151070. 2  
 485584151071. 3  
 485584151072. 4

**Question Number : 538 Question Id : 48558437768 Question Type : MCQ Option Shuffling : No Is Question Mandatory : No Calculator : None Response Time : N.A Think Time : N.A Minimum Instruction Time : 0**

**Correct Marks : 5 Wrong Marks : 1**

**Question Key Details :**

Key	Value
Comprehension	MCQ

किस प्रकार की तुला स्याईत्व, प्रतिष्ठा तथा औपचारिकता देती है ?

1. त्रिज्यीय तुला
2. अनौपचारिक तुला
3. औपचारिक तुला
4. क्षेतिज तुला

**Options :**

485584151069. 1

485584151070. 2

485584151071. 3

485584151072. 4

**Question Number : 538 Question Id : 48558437768 Question Type : MCQ Option Shuffling : No Is Question Mandatory : No Calculator : None Response Time : N.A Think Time : N.A Minimum Instruction Time : 0**

**Correct Marks : 5 Wrong Marks : 1**

**Question Key Details :**

Key	Value
Comprehension	MCQ

எந்த வகையான சமநிலை ஸ்திரத்தன்மை, கண்ணியம் மற்றும் சம்பிரதாய உணர்வைத் தருகிறது?

1. ரேடியல் சமநிலை
2. முறைசாரா இருப்பு
3. முறையான இருப்பு
4. கிடைமட்ட சமநிலை

**Options :**

485584151069. 1

485584151070. 2

485584151071. 3

485584151072. 4

**Question Number : 539 Question Id : 48558437769 Question Type : MCQ Option Shuffling : No Is Question Mandatory : No Calculator : None Response Time : N.A Think Time : N.A Minimum Instruction Time : 0**

**Correct Marks : 5 Wrong Marks : 1**

**Question Key Details :**

Key	Value
Comprehension	MCQ

Support services which should be available to make special and inclusive education effective include which of the following?

- A. Speech therapy
- B. Physical and occupational therapy
- C. Counselling for children
- D. Newsletters for parents
- E. Music and creative activities

Choose the correct answer from the options given below:

- 1. A, B and C only
- 2. B, C and D only
- 3. C, D and E only
- 4. A, B and E only

**Options :**

- 485584151073. 1
- 485584151074. 2
- 485584151075. 3
- 485584151076. 4

**Question Number : 539 Question Id : 48558437769 Question Type : MCQ Option Shuffling : No Is Question Mandatory : No Calculator : None Response Time : N.A Think Time : N.A Minimum Instruction Time : 0 Correct Marks : 5 Wrong Marks : 1**

**Question Key Details :**

Key	Value
Comprehension	MCQ

विशेष तथा शामिल शिक्षा को प्रभावी बनाने के लिए कौन-सी सहारी (सपोर्ट) सेवा उपलब्ध होनी चाहिए

- A. भाषण चिकित्सा
- B. भौतिक तथा व्यावसायिक चिकित्सा
- C. बच्चों के लिए परामर्श
- D. अभिभावकों के लिए सूचना पत्र
- E. संगीत तथा सर्जनात्मक क्रियाकलापों

नीचे दिये गये विकल्पों में से सही उत्तर चुनिए :

- 1. केवल A, B तथा C
- 2. केवल B, C तथा D
- 3. केवल C, D तथा E
- 4. केवल A, B तथा E

**Options :**

- 485584151073. 1
- 485584151074. 2
- 485584151075. 3
- 485584151076. 4

**Question Number : 539 Question Id : 48558437769 Question Type : MCQ Option Shuffling : No Is Question Mandatory : No Calculator : None Response Time : N.A Think Time : N.A Minimum Instruction Time : 0 Correct Marks : 5 Wrong Marks : 1**

**Question Key Details :**

Key	Value
Comprehension	MCQ

சிறப்பு மற்றும் உள்ளடங்கிய கல்வியை பயனுள்ளதாக மாற்றுவதற்கு கிடைக்கக்கூடிய ஆதரவு சேவைகள் பின்வருவனவற்றில் எதை உள்ளடக்குகின்றன?

- A. பேச்சு சிகிச்சை
- B. உடல் மற்றும் தொழில் சிகிச்சை
- C. குழந்தைகளுக்கான ஆலோசனை
- D. பெற்றோருக்கான செய்திமடல்கள்
- E. இசை மற்றும் படைப்பு நடவடிக்கைகள்

கீழே கொடுக்கப்பட்டுள்ள விருப்பங்களிலிருந்து சரியான பதிலைத் தேர்வுசெய்க:

1. A, B மற்றும் C மட்டுமே
2. B, C மற்றும் D மட்டும்
3. C, D மற்றும் E மட்டுமே
4. A, B மற்றும் E மட்டுமே

**Options :**

- 485584151073. 1
- 485584151074. 2
- 485584151075. 3
- 485584151076. 4

**Question Number : 540 Question Id : 48558437770 Question Type : MCQ Option Shuffling : No Is Question Mandatory : No Calculator : None Response Time : N.A Think Time : N.A Minimum Instruction Time : 0 Correct Marks : 5 Wrong Marks : 1**

**Question Key Details :**

Key	Value
Comprehension	MCQ

Which of the following are fabric defects due to faulty finishing?

- A. Kink
- B. Baggy
- C. Smash
- D. Color run
- E. Tenting marks

Choose the correct answer from the options given below:

1. A, and C only
2. A and B only
3. B and E only
4. B and D only

**Options :**

- 485584151077. 1
- 485584151078. 2
- 485584151079. 3
- 485584151080. 4

**Question Number : 540 Question Id : 48558437770 Question Type : MCQ Option Shuffling : No Is Question Mandatory : No Calculator : None Response Time : N.A Think Time : N.A Minimum Instruction Time : 0 Correct Marks : 5 Wrong Marks : 1**

**Question Key Details :**

Key	Value
-----	-------



निम्न में से कौनसी गलत परिसञ्जा के कारण कपड़े की खराबी होती है

- A. किंक
- B. बेगी
- C. स्मीश
- D. रंग निकलने से
- E. बरख तानने से निशान

नीचे दिए गये विकल्पों में से सही उत्तर को चुनिए

- 1. केवल A तथा C
- 2. केवल A तथा B
- 3. केवल B तथा E
- 4. केवल B तथा D

Options :

- 485584151077. 1
- 485584151078. 2
- 485584151079. 3
- 485584151080. 4

Question Number : 540 Question Id : 48558437770 Question Type : MCQ Option Shuffling : No Is Question Mandatory : No Calculator : None Response Time : N.A Think Time : N.A Minimum Instruction Time : 0

Correct Marks : 5 Wrong Marks : 1

Question Key Details :

Key	Value
Comprehension	MCQ

பின்வருவனவற்றில் எது தவறான ஃபினிஷிங் காரணமாக துணி குறைபாடுகள்?

- A. Kink
- B. பேகி
- C. நொறுக்கு
- D. வண்ண இயக்கம்
- E. டென்டரிங் மதிப்பெண்கள்

கீழே கொடுக்கப்பட்டுள்ள விருப்பங்களிலிருந்து சரியான பதிலைத் தேர்வுசெய்க:

- 1. A மற்றும் C மட்டும்
- 2. A மற்றும் B மட்டும்
- 3. B மற்றும் E மட்டும்
- 4. B மற்றும் D மட்டும்

Options :

- 485584151077. 1
- 485584151078. 2
- 485584151079. 3
- 485584151080. 4

Question Number : 541 Question Id : 48558437771 Question Type : MCQ Option Shuffling : No Is Question Mandatory : No Calculator : None Response Time : N.A Think Time : N.A Minimum Instruction Time : 0

Correct Marks : 5 Wrong Marks : 1

Question Key Details :

Key	Value
Comprehension	MCQ

A low protein diet is recommended in case of \_\_\_\_\_.

1. Heart disease
2. Kidney failure
3. Diabetes
4. Anaemia

**Options :**

485584151081. 1  
485584151082. 2  
485584151083. 3  
485584151084. 4

**Question Number : 541 Question Id : 48558437771 Question Type : MCQ Option Shuffling : No Is Question Mandatory : No Calculator : None Response Time : N.A Think Time : N.A Minimum Instruction Time : 0**

**Correct Marks : 5 Wrong Marks : 1**

**Question Key Details :**

Key	Value
Comprehension	MCQ

किस स्थिति में अल्प प्रोटीन आहार दिया जाता है-

1. हृदय रोग
2. यकृत घात
3. मधुमेह
4. एनीमिया

**Options :**

485584151081. 1  
485584151082. 2  
485584151083. 3  
485584151084. 4

**Question Number : 541 Question Id : 48558437771 Question Type : MCQ Option Shuffling : No Is Question Mandatory : No Calculator : None Response Time : N.A Think Time : N.A Minimum Instruction Time : 0**

**Correct Marks : 5 Wrong Marks : 1**

**Question Key Details :**

Key	Value
Comprehension	MCQ

\_\_ விஷயத்தில் குறைந்த புரத உணவு பரிந்துரைக்கப்படுகிறது.

1. இதய நோய்
2. சிறுநீரக செயலிழப்பு
3. சர்க்கரை நோய்
4. இரத்த சோகை

**Options :**

485584151081. 1  
485584151082. 2  
485584151083. 3

485584151084.4

Question Number : 542 Question Id : 48558437772 Question Type : MCQ Option Shuffling : No Is Question Mandatory : No Calculator : None  
Response Time : N.A Think Time : N.A Minimum Instruction Time : 0

Correct Marks : 5 Wrong Marks : 1

Question Key Details :

Key	Value
Comprehension	MCQ

Which of the following is NOT a consumer responsibility ?

1. Being honest in dealing
2. Conducting market survey before making a purchase
3. Reading all the information given on the label
4. Making decision based on others' suggestions

Options :

485584151085.1

485584151086.2

485584151087.3

485584151088.4

Question Number : 542 Question Id : 48558437772 Question Type : MCQ Option Shuffling : No Is Question Mandatory : No Calculator : None  
Response Time : N.A Think Time : N.A Minimum Instruction Time : 0

Correct Marks : 5 Wrong Marks : 1

Question Key Details :

Key	Value
Comprehension	MCQ

निम्न में से कौन-सा उपभोक्ता उत्तरदायित्व नहीं है

1. लेन देन में ईमानदारी होनी चाहिए
2. खरीदने से पहले बाजार का सर्वेक्षण कर लेना चाहिए
3. लेबल पर दी गई सही सूचना पढ़ना चाहिए
4. अन्य सुझावों के आधार पर निर्णय लेना चाहिए

Options :

485584151085.1

485584151086.2

485584151087.3

485584151088.4

Question Number : 542 Question Id : 48558437772 Question Type : MCQ Option Shuffling : No Is Question Mandatory : No Calculator : None  
Response Time : N.A Think Time : N.A Minimum Instruction Time : 0

Correct Marks : 5 Wrong Marks : 1

Question Key Details :

Key	Value
Comprehension	MCQ

பின்வருவனவற்றில் எது துகர்வோர் பொறுப்பு அல்ல?

1. கையாள்வதில் நேர்மையாக இருத்தல்
2. கொள்வனவு செய்வதற்கு முன்னர் சந்தை கணக்கெடுப்பை நடாத்துதல்
3. லேபிளில் கொடுக்கப்பட்டுள்ள அனைத்து தகவல்களையும் படித்தல்
4. மற்றவர்களின் ஆலோசனைகளின் அடிப்படையில் முடிவு எடுத்தல்

**Options :**

485584151085. 1  
485584151086. 2  
485584151087. 3  
485584151088. 4

**Question Number : 543 Question Id : 48558437773 Question Type : MCQ Option Shuffling : No Is Question Mandatory : No Calculator : None Response Time : N.A Think Time : N.A Minimum Instruction Time : 0**

**Correct Marks : 5 Wrong Marks : 1**

**Question Key Details :**

Key	Value
Comprehension	MCQ

Match List I with List II

LIST I National Programme		LIST II Objective	
A.	ICDS	I.	To improve food security
B.	Mid Day Meal Scheme	II.	To reduce malnutrition in children
C.	Annapurna Scheme	III.	To reduce vitamin A deficiency in the population
D.	National Prophylaxis Programme for prevention of Blindness	IV.	To tackle school dropout rate and improve attendance

Choose the correct answer from the options given below:

1. A-I, B-II, C-III, D-IV
2. A-II, B-III, C-I, D-IV
3. A-IV, B-I, C-III, D-II
4. A-II, B-IV, C-I, D-III

**Options :**

485584151089. 1  
485584151090. 2  
485584151091. 3  
485584151092. 4

**Question Number : 543 Question Id : 48558437773 Question Type : MCQ Option Shuffling : No Is Question Mandatory : No Calculator : None Response Time : N.A Think Time : N.A Minimum Instruction Time : 0**

**Correct Marks : 5 Wrong Marks : 1**

**Question Key Details :**

Key	Value
Comprehension	MCQ

सूची I का सूची II से मिलान कीजिए

सूची I राष्ट्रीय योजना	सूची II उद्देश्य
A. ICDS	I. भोजन सुरक्षा में सुधार के लिए
B. मिड डे मिल	II. बच्चों में कुपोषण को कम करने के लिए
C. अन्नपूर्णा योजना	III. जनता में विटामिन A की कमी को कम करने के लिए
D. अस्थापन को रोकने के लिए राष्ट्रीय रोगनिरोधन योजना	IV. स्कूल से अलग होने की गति तथा उपस्थिति में सुधार के विषय में बातचीत करना

निम्नलिखित विकल्पों में से सही उत्तर का चयन कीजिए :

1. A-I, B-II, C-III, D-IV
2. A-II, B-III, C-I, D-IV
3. A-IV, B-I, C-III, D-II
4. A-II, B-IV, C-I, D-III

Options :

485584151089. 1  
485584151090. 2  
485584151091. 3  
485584151092. 4

Question Number : 543 Question Id : 48558437773 Question Type : MCQ Option Shuffling : No Is Question Mandatory : No Calculator : None Response Time : N.A Think Time : N.A Minimum Instruction Time : 0

Correct Marks : 5 Wrong Marks : 1

Question Key Details :

Key	Value
Comprehension	MCQ

பேரட்டி பட்டியல் I மற்றும் பட்டியல் II

LIST I தேசிய நிகழ்ச்சித்திட்டம்	LIST II குறிக்கோள்
A. ICDS	I. உணவுப் பாதுகாப்பை மேம்படுத்த
B. மதிய உணவுத் திட்டம்	II. குழந்தைகளில் ஊட்டச்சத்துக் குறைபாட்டைக் குறைத்தல்
C. அன்னபூர்ணா திட்டம்	III. மக்கள்தொகையில் வைட்டமின் ஏ குறைபாட்டைக் குறைத்தல்
D. பார்வையிழப்பைத் தடுப்பதற்கான தேசிய நோய்த்தடுப்புத் திட்டம்	IV. பள்ளி இடைநிற்றல் விஐதத்தை சமாளித்தல் மற்றும் வருகைப்பதிவை மேம்படுத்துதல்

Choose the correct answer from the options given below:

1. A-I, B-II, C-III, D-IV
2. A-II, B-III, C-I, D-IV
3. A-IV, B-I, C-III, D-II
4. A-II, B-IV, C-I, D-III

Options :

485584151089. 1  
485584151090. 2  
485584151091. 3

485584151092.4

**Question Number : 544 Question Id : 48558437774 Question Type : MCQ Option Shuffling : No Is Question Mandatory : No Calculator : None**  
**Response Time : N.A Think Time : N.A Minimum Instruction Time : 0**  
**Correct Marks : 5 Wrong Marks : 1**  
**Question Key Details :**

Key	Value
Comprehension	MCQ

The Persons with Disabilities Act was passed in which year?

1. 1995
2. 1996
3. 2000
4. 1998

**Options :**

- 485584151093.1  
485584151094.2  
485584151095.3  
485584151096.4

**Question Number : 544 Question Id : 48558437774 Question Type : MCQ Option Shuffling : No Is Question Mandatory : No Calculator : None**  
**Response Time : N.A Think Time : N.A Minimum Instruction Time : 0**  
**Correct Marks : 5 Wrong Marks : 1**  
**Question Key Details :**

Key	Value
Comprehension	MCQ

दिव्यांग व्यक्ति अधिनियम किस वर्ष में पारित किया गया था?

1. 1995
2. 1996
3. 2000
4. 1998

**Options :**

- 485584151093.1  
485584151094.2  
485584151095.3  
485584151096.4

**Question Number : 544 Question Id : 48558437774 Question Type : MCQ Option Shuffling : No Is Question Mandatory : No Calculator : None**  
**Response Time : N.A Think Time : N.A Minimum Instruction Time : 0**

**Correct Marks : 5 Wrong Marks : 1**

**Question Key Details :**

Key	Value
Comprehension	MCQ

மாற்றுத் திறனாளிகள் சட்டம் எந்த ஆண்டில் நிறைவேற்றப்பட்டது?

1. 1995
2. 1996
3. 2000
4. 1998

**Options :**

485584151093. 1  
485584151094. 2  
485584151095. 3  
485584151096. 4

**Question Number : 545 Question Id : 48558437775 Question Type : MCQ Option Shuffling : No Is Question Mandatory : No Calculator : None Response Time : N.A Think Time : N.A Minimum Instruction Time : 0 Correct Marks : 5 Wrong Marks : 1**

**Question Key Details :**

Key	Value
Comprehension	MCQ

A process through which buyer makes decisions about purchasing is known as \_\_\_\_\_.

1. Consumer behaviour
2. Consumer right
3. Consumer footfall
4. Consumer expectation

**Options :**

485584151097. 1  
485584151098. 2  
485584151099. 3  
485584151100. 4

**Question Number : 545 Question Id : 48558437775 Question Type : MCQ Option Shuffling : No Is Question Mandatory : No Calculator : None Response Time : N.A Think Time : N.A Minimum Instruction Time : 0 Correct Marks : 5 Wrong Marks : 1**

**Question Key Details :**

Key	Value
Comprehension	MCQ

खरीददार द्वारा सामान खरीदने के निर्णय लेने की प्रक्रिया \_\_\_\_\_ कहलाती है।

1. उपभोक्ता व्यवहार
2. उपभोक्ता
3. उपभोक्ता संख्या
4. उपभोक्ता अपेक्षाएँ

**Options :**

485584151097. 1  
485584151098. 2  
485584151099. 3  
485584151100. 4

Question Number : 545 Question Id : 48558437775 Question Type : MCQ Option Shuffling : No Is Question Mandatory : No Calculator : None  
Response Time : N.A Think Time : N.A Minimum Instruction Time : 0

Correct Marks : 5 Wrong Marks : 1

Question Key Details :

Key	Value
Comprehension	MCQ

வாங்குபவர் வாங்குவது பற்றி முடிவெடுக்கும் ஒரு செயல்முறை \_\_ என்று அழைக்கப்படுகிறது.

1. நுகர்வோர் நடத்தை
2. நுகர்வோர் உரிமை
3. நுகர்வோரின் வருகை
4. நுகர்வோர் எதிர்பார்ப்பு

Options :

485584151097. 1  
485584151098. 2  
485584151099. 3  
485584151100. 4

Question Number : 546 Question Id : 48558437776 Question Type : MCQ Option Shuffling : No Is Question Mandatory : No Calculator : None  
Response Time : N.A Think Time : N.A Minimum Instruction Time : 0

Correct Marks : 5 Wrong Marks : 1

Question Key Details :

Key	Value
Comprehension	MCQ

To create focused attention on a small village in Delhi, the Project village Chattera was started in 1969. Which newspaper was involved in this project?

1. The Times of India
2. The Hindustan Times
3. Navbharat Times
4. The Hindu

Options :

485584151101. 1  
485584151102. 2  
485584151103. 3  
485584151104. 4

Question Number : 546 Question Id : 48558437776 Question Type : MCQ Option Shuffling : No Is Question Mandatory : No Calculator : None  
Response Time : N.A Think Time : N.A Minimum Instruction Time : 0

Correct Marks : 5 Wrong Marks : 1

Question Key Details :

Key	Value
Comprehension	MCQ



दिल्ली के एक छोटे गाँव की तरफ ध्यान आकर्षित करने हेतु ग्राम 'छतेरा परियोजना 1969 में आरम्भ की गई थी। इस परियोजना में कौन सा समाचार पत्र शामिल था?

1. दि टाइम्स आफ इंडिया
2. हिन्दुस्तान टाइम्स
3. नवभारत टाइम्स
4. द हिन्दू

**Options :**

485584151101. 1  
485584151102. 2  
485584151103. 3  
485584151104. 4

**Question Number : 546 Question Id : 48558437776 Question Type : MCQ Option Shuffling : No Is Question Mandatory : No Calculator : None Response Time : N.A Think Time : N.A Minimum Instruction Time : 0**

**Correct Marks : 5 Wrong Marks : 1**

**Question Key Details :**

Key	Value
Comprehension	MCQ

தில்லியில் உள்ள ஒரு சிறிய கிராமத்தில் கவனம் செலுத்துவதற்காக, 1969 ஆம் ஆண்டில் சட்டேரா என்ற திட்ட கிராமம் தொடங்கப்பட்டது. இந்த திட்டத்தில் ஈடுபட்ட பத்திரிகை எது?

1. தி டைம்ஸ் ஆப் இந்தியா
2. தி இந்துஸ்தான் டைம்ஸ்
3. நவபாரத் டைம்ஸ்
4. தி இந்து

**Options :**

485584151101. 1  
485584151102. 2  
485584151103. 3  
485584151104. 4

**Question Number : 547 Question Id : 48558437777 Question Type : MCQ Option Shuffling : No Is Question Mandatory : No Calculator : None Response Time : N.A Think Time : N.A Minimum Instruction Time : 0**

**Correct Marks : 5 Wrong Marks : 1**

**Question Key Details :**

Key	Value
Comprehension	MCQ

Fortification as an intervention is used under which of the following strategies to combat public nutrition problems ?

1. Nutrient based strategy
2. Medicinal strategy
3. Diet based strategy
4. Supplement based strategy

**Options :**

485584151105. 1  
485584151106. 2  
485584151107. 3  
485584151108. 4

**Question Number : 547 Question Id : 48558437777 Question Type : MCQ Option Shuffling : No Is Question Mandatory : No Calculator : None**  
**Response Time : N.A Think Time : N.A Minimum Instruction Time : 0**  
**Correct Marks : 5 Wrong Marks : 1**

**Question Key Details :**

Key	Value
Comprehension	MCQ

जन पोषण समास्याओं से निपटने के लिए निम्नलिखित में से कौन-सी रणनीति के तहत पुष्टीकरण को एक हस्तक्षेप के रूप में प्रयोग किया जाता है।?

1. पोषक आधारित योजना
2. औषधीय योजना
3. आहार आधारित योजना
4. पोषक पूरक आधारित योजना

**Options :**

485584151105. 1  
485584151106. 2  
485584151107. 3  
485584151108. 4

**Question Number : 547 Question Id : 48558437777 Question Type : MCQ Option Shuffling : No Is Question Mandatory : No Calculator : None**  
**Response Time : N.A Think Time : N.A Minimum Instruction Time : 0**  
**Correct Marks : 5 Wrong Marks : 1**

**Question Key Details :**

Key	Value
Comprehension	MCQ

பொது ஊட்டச்சத்து பிரச்சினைகளை எதிர்த்துப் போராட பின்வரும் எந்த உத்தியின் கீழ் ஒரு தலையீடாக வலுவூட்டல் பயன்படுத்தப்படுகிறது?

1. ஊட்டச்சத்து அடிப்படையிலான மூலோபாயம்
2. மருத்துவ உத்தி
3. உணவு அடிப்படையிலான மூலோபாயம்
4. துணை அடிப்படையிலான மூலோபாயம்

**Options :**

485584151105. 1  
485584151106. 2  
485584151107. 3  
485584151108. 4

**Question Number : 548 Question Id : 48558437778 Question Type : MCQ Option Shuffling : No Is Question Mandatory : No Calculator : None**  
**Response Time : N.A Think Time : N.A Minimum Instruction Time : 0**

**Correct Marks : 5 Wrong Marks : 1**

**Question Key Details :**

Key	Value
Comprehension	MCQ

Which of the following is NOT a department/sector in hospitality industry?

1. Recruitment and staffing
2. Entertainment and recreation
3. Accommodation or front office
4. Food and beverage service

**Options :**

485584151109. 1  
485584151110. 2  
485584151111. 3  
485584151112. 4

**Question Number : 548 Question Id : 48558437778 Question Type : MCQ Option Shuffling : No Is Question Mandatory : No Calculator : None Response Time : N.A Think Time : N.A Minimum Instruction Time : 0 Correct Marks : 5 Wrong Marks : 1 Question Key Details :**

Key	Value
Comprehension	MCQ

निम्नलिखित में से कौन आतिथ्य उद्योग का एक विभाग क्षेत्र नहीं है?

1. नियुक्तियाँ और कर्मचारी रखना
2. आतिथ्य सल्लार एवं मनोरंजन
3. आवास या प्रमुख कार्यालय
4. भोजन और पेय सेवा

**Options :**

485584151109. 1  
485584151110. 2  
485584151111. 3  
485584151112. 4

**Question Number : 548 Question Id : 48558437778 Question Type : MCQ Option Shuffling : No Is Question Mandatory : No Calculator : None Response Time : N.A Think Time : N.A Minimum Instruction Time : 0 Correct Marks : 5 Wrong Marks : 1 Question Key Details :**

Key	Value
Comprehension	MCQ

பின்வருவனவற்றில் எது விருந்தோம்பல் துறையில் ஒரு துறை / துறை அல்ல?

1. ஆட்சேர்ப்பு மற்றும் பணியாளர் நியமனம்
2. பொழுதுபோக்கு மற்றும் பொழுதுபோக்கு
3. தங்குமிடம் அல்லது முன் அலுவலகம்
4. உணவு மற்றும் பான சேவை

**Options :**

485584151109. 1  
485584151110. 2  
485584151111. 3  
485584151112. 4

Question Number : 549 Question Id : 48558437779 Question Type : MCQ Option Shuffling : No Is Question Mandatory : No Calculator : None  
Response Time : N.A Think Time : N.A Minimum Instruction Time : 0

Correct Marks : 5 Wrong Marks : 1

Question Key Details :

Key	Value
Comprehension	MCQ

Shreya wants to design a dress by incorporating rhythm design principle. Which of the following can NOT be used to create rhythm?

1. Use of contrasting colours
2. Cordation
3. Radiation
4. Parallelism

Options :

- 485584151113. 1
- 485584151114. 2
- 485584151115. 3
- 485584151116. 4

Question Number : 549 Question Id : 48558437779 Question Type : MCQ Option Shuffling : No Is Question Mandatory : No Calculator : None  
Response Time : N.A Think Time : N.A Minimum Instruction Time : 0

Correct Marks : 5 Wrong Marks : 1

Question Key Details :

Key	Value
Comprehension	MCQ

श्रेया लय युक्त डिजाइन सिद्धांतों का उपयोग करते हुए परिधान बनाना चाहती है। लय बनाने के लिए निम्न में से किसका उपयोग नहीं होगा?

1. असमान रंगों का उपयोग
2. कोर्डेशन
3. विकिरण
4. समानांतरता

Options :

- 485584151113. 1
- 485584151114. 2
- 485584151115. 3
- 485584151116. 4

Question Number : 549 Question Id : 48558437779 Question Type : MCQ Option Shuffling : No Is Question Mandatory : No Calculator : None  
Response Time : N.A Think Time : N.A Minimum Instruction Time : 0

Correct Marks : 5 Wrong Marks : 1

Question Key Details :

Key	Value
Comprehension	MCQ

ஸ்ரேயா ரிதம் டிசைன் கோட்பாட்டை இணைத்து ஒரு ஆடையை வடிவமைக்க விரும்புகிறார். தாளத்தை உருவாக்க பின்வருவனவற்றில் எதைப் பயன்படுத்தக்கூடாது?

1. மாறுபட்ட வண்ணங்களின் பயன்பாடு
2. கோர்டேஷன்
3. கதிர்வீச்சு
4. இணைவாதம்

Options :

485584151113. 1  
485584151114. 2  
485584151115. 3  
485584151116. 4

Question Number : 550 Question Id : 48558437780 Question Type : MCQ Option Shuffling : No Is Question Mandatory : No Calculator : None Response Time : N.A Think Time : N.A Minimum Instruction Time : 0

Correct Marks : 5 Wrong Marks : 1

Question Key Details :

Key	Value
Comprehension	MCQ

Match List I with List II

LIST I (Terms)		LIST II (Description)	
A.	Quality Assurance	I.	Process of implementation and monitoring of quality systems like TQM, ISO
B.	Quality control	II.	Process of problem solving with the purpose of getting a 'zero-defect' product
C.	Quality Management	III.	Characteristics of the product that are given by the buyer or desired by the consumer
D.	Specifications	IV.	Process of preventive problem management

Choose the correct answer from the options given below:

1. A-IV, B-II, C-I, D-III
2. A-IV, B-I, C-II, D-III
3. A-IV, B-II, C-III, D-I
4. A-I, B-II, C-IV, D-III

Options :

485584151117. 1  
485584151118. 2  
485584151119. 3  
485584151120. 4

Question Number : 550 Question Id : 48558437780 Question Type : MCQ Option Shuffling : No Is Question Mandatory : No Calculator : None Response Time : N.A Think Time : N.A Minimum Instruction Time : 0

Correct Marks : 5 Wrong Marks : 1

Question Key Details :

Key	Value
Comprehension	MCQ

सूची I का सूची II से मिलान कीजिए

सूची I (पद)	सूची II (अर्थ)
A. गुणवत्ता आश्वासन	I. टी.क्यू.एम., आई.एस.ओ. जैसी गुणवत्ता प्रणालियों के क्रियान्वयन और निगरानी की प्रक्रिया
B. गुणवत्ता नियंत्रण	II. शून्य दोष वाला उत्पाद पाने के उद्देश्य से समस्या समाधान की प्रक्रिया
C. गुणवत्ता प्रबंधन	III. खरीदार द्वारा बतायी गयी या उपभोक्ता द्वारा वांछित उत्पाद की विशेषताएँ
D. मानक	IV. निवारक समस्या प्रबंधन की प्रक्रिया

नीचे दिए गए विकल्पों में से सही उत्तर का चयन कीजिए:

1. A-IV, B-II, C-I, D-III
2. A-IV, B-I, C-II, D-III
3. A-IV, B-II, C-III, D-I
4. A-I, B-II, C-IV, D-III

Options :

485584151117. 1  
485584151118. 2  
485584151119. 3  
485584151120. 4

Question Number : 550 Question Id : 48558437780 Question Type : MCQ Option Shuffling : No Is Question Mandatory : No Calculator : None Response Time : N.A Think Time : N.A Minimum Instruction Time : 0

Correct Marks : 5 Wrong Marks : 1

Question Key Details :

Key	Value
Comprehension	MCQ

போட்டி பட்டியல் I மற்றும் பட்டியல் II

LIST I (வினாக்கள்)	LIST II (விளக்கம்)
A. தர உத்தரவாதம்	I. TQM, ISO போன்ற தர அமைப்புகளை செயல்படுத்துதல் மற்றும் கண்காணித்தல்
B. தரக் கட்டுப்பாடு	II. 'பூஜ்ஜிய குறைபாடு' தயாரிப்பைப் பெறும் நோக்கத்துடன் சிக்கலைத் தீர்க்கும் செயல்முறை
C. தர முகாமைத்துவம்	III. வாங்குபவரால் வழங்கப்பட்ட அல்லது ருகர்வோரால் விரும்பப்படும் பொருளின் பண்புகள்
D. விவரக்குறிப்புகள்	IV. கட்டுப்பு சிக்கல் மேலாண்மை செயல்முறை

Choose the correct answer from the options given below:

1. A-IV, B-II, C-I, D-III
2. A-IV, B-I, C-II, D-III
3. A-IV, B-II, C-III, D-I
4. A-I, B-II, C-IV, D-III

Options :

485584151117. 1  
485584151118. 2  
485584151119. 3  
485584151120. 4

**Question Number : 551 Question Id : 48558437781 Question Type : MCQ Option Shuffling : No Is Question Mandatory : No Calculator : None  
Response Time : N.A Think Time : N.A Minimum Instruction Time : 0  
Correct Marks : 5 Wrong Marks : 1**

**Question Key Details :**

Key	Value
Comprehension	MCQ

Match List I with List II

LIST I		LIST II	
Disability		Characteristics	
A.	Cerebral Palsy	I.	Disability affecting communication, social interaction
B.	Autism	II.	Difficulties in reading, writing and solving arithmetic problems
C.	Learning disability	III.	Limitation in intellectual functioning
D.	Intellectual impairment	IV.	Difficulties of movement, posture, speech and hand functions

Choose the correct answer from the options given below:

1. A-III, B-IV, C-II, D-I
2. A-I, B-IV, C-III, D-II
3. A-I, B-IV, C-III, D-II
4. A-II, B-I, C-IV, D-III

**Options :**

485584151121. 1  
485584151122. 2  
485584151123. 3  
485584151124. 4

**Question Number : 551 Question Id : 48558437781 Question Type : MCQ Option Shuffling : No Is Question Mandatory : No Calculator : None  
Response Time : N.A Think Time : N.A Minimum Instruction Time : 0**

**Correct Marks : 5 Wrong Marks : 1**

**Question Key Details :**

Key	Value
Comprehension	MCQ

सूची I का सूची II से मिलान कीजिए

सूची I	सूची II
विकलांगता	लक्षण
A. प्रमासिषक आघात	I. संचार और सामाजिक संपर्क को प्रभावित करने वाली विकलांगता
B. स्वतंत्रता	II. पढ़ने, लिखने और अकागपितोप परेशानियां हल करने में कठिनाई
C. अधिगम संबंधी अक्षमता	III. सीमित बौद्धिक श्रियाएं
D. बौद्धिक अक्षमता	IV. चलने-फिरने, मुद्राओं, चाक-राक्ति और हाथ के कार्या में कठिनाई

निम्नलिखित विकल्पों में से सही उत्तर का चयन कीजिए :

1. A-III, B-IV, C-II, D-I
2. A-I, B-IV, C-III, D-II
3. A-I, B-IV, C-III, D-II
4. A-II, B-I, C-IV, D-III

Options :

485584151121. 1
485584151122. 2
485584151123. 3
485584151124. 4

Question Number : 551 Question Id : 48558437781 Question Type : MCQ Option Shuffling : No Is Question Mandatory : No Calculator : None Response Time : N.A Think Time : N.A Minimum Instruction Time : 0 Correct Marks : 5 Wrong Marks : 1

Question Key Details :

Key	Value
Comprehension	MCQ

போட்டி பட்டியல் I மற்றும் பட்டியல் II

LIST I	LIST II
ஊனம்	சிறப்பியல்புகள்
A. பெருமூளை வாதம்	I. தகவல்தொடர்பு, சமூக தொடர்புகளை பாதிக்கும் இயலாமை
B. ஆட்டிசம்	II. படிப்பது, எழுதுவது மற்றும் எண்கணித சிக்கல்களைத் தீர்ப்பதில் சிரமங்கள்
C. கற்றல் துறைபாடு	III. அறிவுசார் செயல்பாட்டில் வரம்பு
D. அறிவுத்திறன் துறைபாடு	IV. இயக்கம், தோரணை, பேச்சு மற்றும் கை செயல்பாடுகளின் சிரமங்கள்

Choose the correct answer from the options given below:

1. A-III, B-IV, C-II, D-I
2. A-I, B-IV, C-III, D-II
3. A-I, B-IV, C-III, D-II
4. A-II, B-I, C-IV, D-III



**Options :**

485584151121. 1  
 485584151122. 2  
 485584151123. 3  
 485584151124. 4

**Question Number : 552 Question Id : 48558437782 Question Type : MCQ Option Shuffling : No Is Question Mandatory : No Calculator : None Response Time : N.A Think Time : N.A Minimum Instruction Time : 0**

**Correct Marks : 5 Wrong Marks : 1**

**Question Key Details :**

Key	Value
Comprehension	MCQ

Which institutional setting is particularly designed for the care of infants and young children in the absence of home care?

1. Day care
2. Anganwadi centres
3. Creche
4. Pre school

**Options :**

485584151125. 1  
 485584151126. 2  
 485584151127. 3  
 485584151128. 4

**Question Number : 552 Question Id : 48558437782 Question Type : MCQ Option Shuffling : No Is Question Mandatory : No Calculator : None Response Time : N.A Think Time : N.A Minimum Instruction Time : 0**

**Correct Marks : 5 Wrong Marks : 1**

**Question Key Details :**

Key	Value
Comprehension	MCQ

शिशुओं और किशोरों को गृह देखभाल न मिल पाने की परिस्थिति में उनकी देखभाल के लिए विशिष्ट रूप से कौन सा संस्थागत वातावरण तैयार किया जाता है?

1. दिवस-देखभाल
2. आंगनवाड़ी केंद्र
3. क्रेच
4. पूर्व-विद्यालय

**Options :**

485584151125. 1  
 485584151126. 2  
 485584151127. 3  
 485584151128. 4

**Question Number : 552 Question Id : 48558437782 Question Type : MCQ Option Shuffling : No Is Question Mandatory : No Calculator : None Response Time : N.A Think Time : N.A Minimum Instruction Time : 0**

**Correct Marks : 5 Wrong Marks : 1**

**Question Key Details :**

Key	Value
Comprehension	MCQ

வீட்டு பராமரிப்பு இல்லாத நிலையில் கைக்குழந்தைகள் மற்றும் சிறு குழந்தைகளைப் பராமரிப்பதற்காக எந்த நிறுவன அமைப்பு சூறிப்பாக வடிவமைக்கப்பட்டுள்ளது?

1. பகல்நேர பராமரிப்பு
2. அங்கன்வாடி மையங்கள்
3. குழந்தைகள் காப்பகம்
4. முன்பள்ளி

**Options :**

485584151125. 1  
485584151126. 2  
485584151127. 3  
485584151128. 4

**Question Number : 553 Question Id : 48558437783 Question Type : MCQ Option Shuffling : No Is Question Mandatory : No Calculator : None Response Time : N.A Think Time : N.A Minimum Instruction Time : 0**

**Correct Marks : 5 Wrong Marks : 1**

**Question Key Details :**

Key	Value
Comprehension	MCQ

Which type of market segmentation is on the basis of lifestyle like social activities, needs and wants?

1. Behavioural segmentation
2. Psychographic segmentation
3. Demographic segmentation
4. Geographic segmentation

**Options :**

485584151129. 1  
485584151130. 2  
485584151131. 3  
485584151132. 4

**Question Number : 553 Question Id : 48558437783 Question Type : MCQ Option Shuffling : No Is Question Mandatory : No Calculator : None Response Time : N.A Think Time : N.A Minimum Instruction Time : 0**

**Correct Marks : 5 Wrong Marks : 1**

**Question Key Details :**

Key	Value
Comprehension	MCQ

जीवनशैली, जैसे कि सामाजिक गतिविधियां, आवश्यकताएं और इच्छाएं कौन से बाजार विभाजन का आधार हैं?

1. व्यवहारिक विभाजन
2. मनोविज्ञान चित्रण विभाजन
3. जनसांख्यिकी विभाजन
4. भौगोलिक विभाजन

**Options :**

485584151129. 1  
485584151130. 2  
485584151131. 3

485584151132.4

Question Number : 553 Question Id : 48558437783 Question Type : MCQ Option Shuffling : No Is Question Mandatory : No Calculator : None  
Response Time : N.A Think Time : N.A Minimum Instruction Time : 0  
Correct Marks : 5 Wrong Marks : 1

Question Key Details :

Key	Value
Comprehension	MCQ

சமூக நடவடிக்கைகள், தேவைகள் மற்றும் விருப்பங்கள் போன்ற வாழ்க்கை முறையின் அடிப்படையில் எந்த வகையான சந்தைப் பிரிப்பு?

1. நடத்தை பிரிப்பு
2. உளவியல் பகுப்பு
3. மக்கள்தொகைப் பிரிவு
4. புவியியல் பிரிவு

Options :

485584151129. 1  
485584151130. 2  
485584151131. 3  
485584151132. 4

Question Number : 554 Question Id : 48558437784 Question Type : MCQ Option Shuffling : No Is Question Mandatory : No Calculator : None  
Response Time : N.A Think Time : N.A Minimum Instruction Time : 0

Correct Marks : 5 Wrong Marks : 1

Question Key Details :

Key	Value
Comprehension	MCQ

Which of the following is a weakness of newspaper as a type of media ?

1. Low production cost
2. Tangible
3. Media waste
4. High one time reach

Options :

485584151133. 1  
485584151134. 2  
485584151135. 3  
485584151136. 4

Question Number : 554 Question Id : 48558437784 Question Type : MCQ Option Shuffling : No Is Question Mandatory : No Calculator : None  
Response Time : N.A Think Time : N.A Minimum Instruction Time : 0

Correct Marks : 5 Wrong Marks : 1

Question Key Details :

Key	Value
Comprehension	MCQ

निम्नलिखित में से क्या मीडिया प्रतिनिधि के रूप में समाचार पत्र की एक कमजोरी है?

1. न्यूनतम उत्पादन कीमत
2. मूर्तता
3. मीडिया संबंधित कचरा
4. एक समय की अत्यधिक पहुँच

Options :

485584151133. 1  
485584151134. 2  
485584151135. 3  
485584151136. 4

Question Number : 554 Question Id : 48558437784 Question Type : MCQ Option Shuffling : No Is Question Mandatory : No Calculator : None  
Response Time : N.A Think Time : N.A Minimum Instruction Time : 0  
Correct Marks : 5 Wrong Marks : 1  
Question Key Details :

Key	Value
Comprehension	MCQ

பின்வருவனவற்றில் எது ஒரு வகை ஊடகமாக செய்குத்தாளின் பலவீனம்?

1. குறைந்த உற்பத்தி செலவு
2. உறுதியானது
3. ஊடகக் கழிவுகள்
4. உயர்ந்த ஒரு முறை அடைதல்

Options :

485584151133. 1  
485584151134. 2  
485584151135. 3  
485584151136. 4

Question Number : 555 Question Id : 48558437785 Question Type : MCQ Option Shuffling : No Is Question Mandatory : No Calculator : None  
Response Time : N.A Think Time : N.A Minimum Instruction Time : 0  
Correct Marks : 5 Wrong Marks : 1  
Question Key Details :

Key	Value
Comprehension	MCQ

Which among the following is NOT an example of formulated foods?

1. Frozen peas
2. Biscuit
3. Bread
4. Ice-cream

Options :

485584151137. 1  
485584151138. 2  
485584151139. 3  
485584151140. 4

Question Number : 555 Question Id : 48558437785 Question Type : MCQ Option Shuffling : No Is Question Mandatory : No Calculator : None  
Response Time : N.A Think Time : N.A Minimum Instruction Time : 0

Correct Marks : 5 Wrong Marks : 1

Question Key Details :

Key	Value
Comprehension	MCQ

निम्नलिखित में से कौन प्रतिपादित खाद्य पदार्थ का उदाहरण नहीं है?

1. जमे हुए मटर
2. बिस्कुट
3. ब्रेड
4. आइसक्रीम

Options :

485584151137. 1  
485584151138. 2  
485584151139. 3  
485584151140. 4

Question Number : 555 Question Id : 48558437785 Question Type : MCQ Option Shuffling : No Is Question Mandatory : No Calculator : None  
Response Time : N.A Think Time : N.A Minimum Instruction Time : 0

Correct Marks : 5 Wrong Marks : 1

Question Key Details :

Key	Value
Comprehension	MCQ

பின்வருவனவற்றில் எது வடிவமைக்கப்பட்ட உணவுகளுக்கு எடுத்துக்காட்டு அல்ல?

1. உணர்ந்த பட்டாணி
2. பிஸ்கோத்து
3. ரொட்டி
4. ஐஸ்கிரீம்

Options :

485584151137. 1  
485584151138. 2  
485584151139. 3  
485584151140. 4

Question Number : 556 Question Id : 48558437786 Question Type : MCQ Option Shuffling : No Is Question Mandatory : No Calculator : None  
Response Time : N.A Think Time : N.A Minimum Instruction Time : 0

Correct Marks : 5 Wrong Marks : 1

Question Key Details :

Key	Value
Comprehension	MCQ

Arrange the procedure followed by a special educator to teach special educational needs children in the correct sequence of their implementation.

- A. Development of an Individualised Education Programme (IEP) for each student
- B. Assessment of the child in different areas of development
- C. Facilitating access and use of support services
- D. Regular evaluation of IEP to check child's progress

Choose the correct answer from the options given below:

- 1. A, B, C, D
- 2. D, A, B, C
- 3. B, A, D, C
- 4. B, D, A, C

Options :

- 485584151141. 1
- 485584151142. 2
- 485584151143. 3
- 485584151144. 4

Question Number : 556 Question Id : 48558437786 Question Type : MCQ Option Shuffling : No Is Question Mandatory : No Calculator : None  
Response Time : N.A Think Time : N.A Minimum Instruction Time : 0  
Correct Marks : 5 Wrong Marks : 1

Question Key Details :

Key	Value
Comprehension	MCQ

विशिष्ट आवश्यकता वाले बच्चों को विशेष शिक्षक द्वारा दिए जाने वाले शिक्षण की प्रक्रियाओं को उनके अपनाए जाने के क्रम में व्यवस्थित कीजिए।

- A. प्रत्येक छात्र के लिए एकल शिक्षा कार्यक्रम (IEP) विकसित करना
- B. बाल विकास के विभिन्न क्षेत्रों का मूल्यांकन
- C. सहयोग सेवा का अभिगम एवं उपयोग
- D. बच्चे के विकास को जांचने के लिए IEP का नियमित मूल्यांकन

निम्नलिखित विकल्पों में से सही उत्तर का चयन कीजिए:

- 1. A, B, C, D
- 2. D, A, B, C
- 3. B, A, D, C
- 4. B, D, A, C

Options :

- 485584151141. 1
- 485584151142. 2
- 485584151143. 3
- 485584151144. 4

Question Number : 556 Question Id : 48558437786 Question Type : MCQ Option Shuffling : No Is Question Mandatory : No Calculator : None  
Response Time : N.A Think Time : N.A Minimum Instruction Time : 0  
Correct Marks : 5 Wrong Marks : 1

Question Key Details :

Key	Value
Comprehension	MCQ

சிறப்புக் கல்வித் தேவையுள்ள குழந்தைகளுக்கு அவற்றைச் சரியான வரிசையில் கற்பிக்க ஒரு சிறப்புக் கல்வியாளர் பின்பற்றும் நடைமுறையை ஏற்பாடு செய்யுங்கள்.

- A. ஒவ்வொரு மாணவருக்கும் தனிப்பட்ட கல்வி நிகழ்ச்சித் திட்டமொன்றை விருத்தி செய்தல்.
- B. வளர்ச்சியின் பல்வேறு பகுதிகளில் குழந்தையின் மதிப்பீடு
- C. ஆதரவு சேவைகளை அணுகுவதற்கும் பயன்படுத்துவதற்கும் வசதியளித்தல்
- D. குழந்தையின் முன்னேற்றத்தை சரிபார்க்க IEP இன் வழக்கமான மதிப்பீடு

கீழே கொடுக்கப்பட்டுள்ள விருப்பங்களிலிருந்து சரியான பதிலைத் தேர்வுசெய்க.

- 1. ஏ, பி, சி, டி
- 2. டி, ஏ, பி, சி
- 3. பி, ஏ, டி, சி
- 4. பி, டி, ஏ, சி

**Options :**

- 485584151141. 1
- 485584151142. 2
- 485584151143. 3
- 485584151144. 4

**Question Number : 557 Question Id : 48558437787 Question Type : MCQ Option Shuffling : No Is Question Mandatory : No Calculator : None Response Time : N.A Think Time : N.A Minimum Instruction Time : 0**

**Correct Marks : 5 Wrong Marks : 1**

**Question Key Details :**

Key	Value
Comprehension	MCQ

In the context of Food Standards Regulations, which of the following has become the single most important international reference point for developments associated with food standards.

- 1. Codex Alimentarius Commission
- 2. International Organisation for Standardization
- 3. World Trade Organisation
- 4. World Health Organisation

**Options :**

- 485584151145. 1
- 485584151146. 2
- 485584151147. 3
- 485584151148. 4

**Question Number : 557 Question Id : 48558437787 Question Type : MCQ Option Shuffling : No Is Question Mandatory : No Calculator : None Response Time : N.A Think Time : N.A Minimum Instruction Time : 0**

**Correct Marks : 5 Wrong Marks : 1**

**Question Key Details :**

Key	Value
Comprehension	MCQ

खाद्य मानक नियमन के संदर्भ में निम्नलिखित में से कौन सा खाद्य मानकों के विकास से संबद्ध एकमात्र महत्वपूर्ण अन्तर्राष्ट्रीय प्रेषण बिन्दु है?

1. कोडेक्स संपोषीय आयोग
2. अन्तर्राष्ट्रीय मानकीकरण संगठन
3. विश्व व्यापार संगठन
4. विश्व स्वास्थ्य संगठन

Options :

485584151145. 1  
485584151146. 2  
485584151147. 3  
485584151148. 4

Question Number : 557 Question Id : 48558437787 Question Type : MCQ Option Shuffling : No Is Question Mandatory : No Calculator : None Response Time : N.A Think Time : N.A Minimum Instruction Time : 0

Correct Marks : 5 Wrong Marks : 1

Question Key Details :

Key	Value
Comprehension	MCQ

உணவுத் தர நிர்ணய ஒழுங்குமுறைகளின் பின்னணியில், பின்வருவனவற்றில் எது உணவுத் தரத்துடன் தொடர்புடைய வளர்ச்சிகளுக்கான மிக முக்கியமான சர்வதேச குறிப்பு புள்ளியாக மாறியுள்ளது.

1. கோடெக்ஸ் அலிமென்டேரியஸ் ஆணையம்
2. தரப்படுத்தலுக்கான சர்வதேச அமைப்பு
3. உலக வர்த்தக அமைப்பு
4. உலக சுகாதார நிறுவனம்

Options :

485584151145. 1  
485584151146. 2  
485584151147. 3  
485584151148. 4

Question Number : 558 Question Id : 48558437788 Question Type : MCQ Option Shuffling : No Is Question Mandatory : No Calculator : None Response Time : N.A Think Time : N.A Minimum Instruction Time : 0

Correct Marks : 5 Wrong Marks : 1

Question Key Details :

Key	Value
Comprehension	MCQ

Female designer in dress making was known as \_\_\_\_\_.

1. Couture
2. Couturiere
3. Couturier
4. Retail merchandiser

Options :

485584151149. 1  
485584151150. 2



485584151151. 3  
485584151152. 4

Question Number : 558 Question Id : 48558437788 Question Type : MCQ Option Shuffling : No Is Question Mandatory : No Calculator : None  
Response Time : N.A Think Time : N.A Minimum Instruction Time : 0  
Correct Marks : 5 Wrong Marks : 1

**Question Key Details :**

Key	Value
Comprehension	MCQ

परिधान तैयार करने वाली महिला डिज़ाइनर को \_\_\_\_\_ कहा जाता था .

1. कॉलर
2. कॉलरियरे
3. कॉलरियर
4. खुदरा व्यवसायी

**Options :**

485584151149. 1  
485584151150. 2  
485584151151. 3  
485584151152. 4

Question Number : 558 Question Id : 48558437788 Question Type : MCQ Option Shuffling : No Is Question Mandatory : No Calculator : None  
Response Time : N.A Think Time : N.A Minimum Instruction Time : 0

Correct Marks : 5 Wrong Marks : 1

**Question Key Details :**

Key	Value
Comprehension	MCQ

ஆடை தயாரிப்பில் பெண் வடிவமைப்பாளர் as \_\_\_\_\_ அறியப்பட்டார்.

1. ஆடை அலங்காரம்
2. கோடூரியர்
3. கோடூரியர்
4. சில்லறை விற்பனையாளர்

**Options :**

485584151149. 1  
485584151150. 2  
485584151151. 3  
485584151152. 4

Question Number : 559 Question Id : 48558437789 Question Type : MCQ Option Shuffling : No Is Question Mandatory : No Calculator : None  
Response Time : N.A Think Time : N.A Minimum Instruction Time : 0

Correct Marks : 5 Wrong Marks : 1

**Question Key Details :**

Key	Value
Comprehension	MCQ

In the context of food and beverage department of a hospitality organisation, who among the following is concerned with storage, maintenance and issue of cutlery?

1. Chef-de-cuisine
2. Chef-de-parties
3. Kitchen steward
4. Restaurant manager

Options :

485584151153. 1  
485584151154. 2  
485584151155. 3  
485584151156. 4

Question Number : 559 Question Id : 48558437789 Question Type : MCQ Option Shuffling : No Is Question Mandatory : No Calculator : None  
Response Time : N.A Think Time : N.A Minimum Instruction Time : 0  
Correct Marks : 5 Wrong Marks : 1  
Question Key Details :

Key	Value
Comprehension	MCQ

एक आतिथ्य सत्कार संस्थान के खादा और पेय विभाग के संदर्भ में से निम्न में से किसका भंडारण, रख-रखाव और कर्तारिका (कटरारी) वितरण से सम्बन्ध है?

1. रसोई शेफ-द-कुइज़िन
2. रसोई शेफ-द-पार्टीस
3. रसोई स्टीवर्ड
4. रेस्तरा प्रबंधक

Options :

485584151153. 1  
485584151154. 2  
485584151155. 3  
485584151156. 4

Question Number : 559 Question Id : 48558437789 Question Type : MCQ Option Shuffling : No Is Question Mandatory : No Calculator : None  
Response Time : N.A Think Time : N.A Minimum Instruction Time : 0  
Correct Marks : 5 Wrong Marks : 1

Question Key Details :

Key	Value
Comprehension	MCQ

ஒரு விருந்தோம்பல் அமைப்பின் உணவு மற்றும் பானத் துறையைப் பொறுத்தவரை, பின்வருவனவற்றில் யார் கடலரிகளை சேயித்தல், பராமரித்தல் மற்றும் வெளியிடுவதில் அக்கறை கொண்டவர்கள்?

1. சைஃப்-டி-சமையல்
2. சைஃப்-டி-பார்ட்டிகள்
3. சமையலறை நிர்வாகி
4. உணவுக மேலாளர்

Options :

485584151153. 1

485584151154. 2  
485584151155. 3  
485584151156. 4

Question Number : 560 Question Id : 48558437790 Question Type : MCQ Option Shuffling : No Is Question Mandatory : No Calculator : None  
Response Time : N.A Think Time : N.A Minimum Instruction Time : 0

Correct Marks : 5 Wrong Marks : 1

Question Key Details :

Key	Value
Comprehension	MCQ

Which standardisation mark will you find on a pack of detergent powder?

1. FPO
2. BIS
3. Hallmark
4. AGMARK

Options :

485584151157. 1  
485584151158. 2  
485584151159. 3  
485584151160. 4

Question Number : 560 Question Id : 48558437790 Question Type : MCQ Option Shuffling : No Is Question Mandatory : No Calculator : None  
Response Time : N.A Think Time : N.A Minimum Instruction Time : 0

Correct Marks : 5 Wrong Marks : 1

Question Key Details :

Key	Value
Comprehension	MCQ

प्रक्षालक (डिटरजेंट) पाउडर के पैकेट पर कौन सा मानकीकरण चिन्ह होता है?

1. एफ पी ओ
2. बी आई एस
3. हॉलमार्क
4. एगमार्क

Options :

485584151157. 1  
485584151158. 2  
485584151159. 3  
485584151160. 4

Question Number : 560 Question Id : 48558437790 Question Type : MCQ Option Shuffling : No Is Question Mandatory : No Calculator : None  
Response Time : N.A Think Time : N.A Minimum Instruction Time : 0

Correct Marks : 5 Wrong Marks : 1

Question Key Details :

Key	Value
Comprehension	MCQ

சோப்பு தூள் பாக்டெரிடில் எந்த தரப்படுத்தல் குறியீட்டைக் காண்பீர்கள்?

1. FPO
2. BIS
3. ஹால்மார்க்
4. அக்மார்க்

**Options :**

485584151157. 1  
485584151158. 2  
485584151159. 3  
485584151160. 4

**Question Number : 561 Question Id : 48558437791 Question Type : MCQ Option Shuffling : No Is Question Mandatory : No Calculator : None Response Time : N.A Think Time : N.A Minimum Instruction Time : 0**

**Correct Marks : 5 Wrong Marks : 1**

**Question Key Details :**

Key	Value
Comprehension	MCQ

Arrange the steps of nutritional care during illness in correct sequence:

- A. Diagnosis of nutritional problems
- B. Assessing nutritional status
- C. Evaluating nutritional care outcomes and making changes, if necessary
- D. Planning and prioritising nutrition intervention(s) to meet nutritional needs

Choose the correct answer from the options given below:

1. A, B, D, C
2. B, A, D, C
3. C, B, A, D
4. A, B, C, D

**Options :**

485584151161. 1  
485584151162. 2  
485584151163. 3  
485584151164. 4

**Question Number : 561 Question Id : 48558437791 Question Type : MCQ Option Shuffling : No Is Question Mandatory : No Calculator : None Response Time : N.A Think Time : N.A Minimum Instruction Time : 0**

**Correct Marks : 5 Wrong Marks : 1**

**Question Key Details :**

Key	Value
Comprehension	MCQ

निम्न चरणों को बीमारी के दौरान पोषण संबंधी देखभाल के सही क्रम में व्यवस्थित कीजिए।

- पोषण संबंधी समस्याओं का निदान
- पोषण स्तर का मूल्यांकन
- पोषण संबंधी देखभाल के परिमाणों का मूल्यांकन और आवश्यकतानुसार उसमें बदलाव करना
- पोषण संबंधी योजनाएं बनाना और उन्हें प्रथमिकता देना

नीचे दिए गए विकल्पों में से सही उत्तर दीजिए :

- A, B, D, C
- B, A, D, C
- C, B, A, D
- A, B, C, D

Options :

485584151161. 1  
485584151162. 2  
485584151163. 3  
485584151164. 4

Question Number : 561 Question Id : 48558437791 Question Type : MCQ Option Shuffling : No Is Question Mandatory : No Calculator : None Response Time : N.A Think Time : N.A Minimum Instruction Time : 0

Correct Marks : 5 Wrong Marks : 1

Question Key Details :

Key	Value
Comprehension	MCQ

நோயின் போது ஊட்டச்சத்து பராமரிப்பு படிக்களை சரியான வரிசையில் ஒழுங்கமைக்கவும்:

- ஊட்டச்சத்து பிரச்சினைகளைக் கண்டறிதல்
- ஊட்டச்சத்து நிலையை மதிப்பிடுதல்
- ஊட்டச்சத்து பராமரிப்பு விளைவுகளை மதிப்பீடு செய்தல் மற்றும் தேவைப்பட்டால் மாற்றங்களைச் செய்தல்
- ஊட்டச்சத்து தேவைகளைப் பூர்த்தி செய்ய ஊட்டச்சத்து தலையீடு (களை) திட்டமிடுதல் மற்றும் முன்னுரிமை அளித்தல்

கீழே கொடுக்கப்பட்டுள்ள விருப்பங்களிலிருந்து சரியான பதிவைத் தேர்வுசெய்க:

- ஏ, பி, டி, சி
- பி, ஏ, டி, சி
- சி, பி, ஏ, டி
- ஏ, பி, சி, டி

Options :

485584151161. 1  
485584151162. 2  
485584151163. 3  
485584151164. 4

Question Number : 562 Question Id : 48558437792 Question Type : MCQ Option Shuffling : No Is Question Mandatory : No Calculator : None Response Time : N.A Think Time : N.A Minimum Instruction Time : 0

Correct Marks : 5 Wrong Marks : 1

Question Key Details :

Key	Value
-----	-------

Match List I with List II

LIST I (Washing action)		LIST II (Machine-Control)	
A.	Front loading machine	I.	Agitation
B.	Temperature control	II.	Tumbling
C.	Top loading machine	III.	Pulsation
D.	Rapid vertical movement	IV.	Thermostat

Choose the correct answer from the options given below:

1. A-I, B-II, C-III, D-IV
2. A-II, B-I, C-III, D-IV
3. A-III, B-I, C-IV, D-II
4. A-III, B-IV, C-I, D-II

Options :

485584151165. 1

485584151166. 2

485584151167. 3

485584151168. 4

Question Number : 562 Question Id : 48558437792 Question Type : MCQ Option Shuffling : No Is Question Mandatory : No Calculator : None Response Time : N.A Think Time : N.A Minimum Instruction Time : 0

Correct Marks : 5 Wrong Marks : 1

Question Key Details :

Key	Value
Comprehension	MCQ

सूची I का सूची II से मिलान कीजिए

सूची I (धुलाई क्रिया)	सूची II (मशीन नियंत्रण)
A. अग्र-भारण मशीन	I. आलोटन
B. तापमान नियंत्रण	II. अवघातन
C. ऊपरी-भारण मशीन	III. स्पंदन
D. तीव्र ऊर्ध्वधर चलन	IV. ताप स्थाई

निम्नलिखित विकल्पों में से सही उत्तर का चयन कीजिए :

1. A-I, B-II, C-III, D-IV
2. A-II, B-I, C-III, D-IV
3. A-III, B-I, C-IV, D-II
4. A-III, B-IV, C-I, D-II

Options :

485584151165. 1

485584151166. 2

485584151167. 3

485584151168. 4

Question Number : 562 Question Id : 48558437792 Question Type : MCQ Option Shuffling : No Is Question Mandatory : No Calculator : None Response Time : N.A Think Time : N.A Minimum Instruction Time : 0

Correct Marks : 5 Wrong Marks : 1

Question Key Details :

Key	Value
Comprehension	MCQ

போட்டி பட்டியல் I மற்றும் பட்டியல் II

LIST I (கழுவுதல் செயல்)	LIST II (இயந்திரக் கட்டுப்பாடு)
A. முன் ஏற்றுதல் இயந்திரம்	I. லத்தாடு
B. வெப்பநிலை கட்டுப்பாடு	II. இடிந்து விழுதல்
C. மேல் ஏற்றுதல் இயந்திரம்	III. துடிப்பு
D. விரைவான செங்குத்து இயக்கம்	IV. தெர்மோஸ்டாட்

Choose the correct answer from the options given below:

1. A-I, B-II, C-III, D-IV
2. A-II, B-I, C-III, D-IV
3. A-III, B-I, C-IV, D-II
4. A-III, B-IV, C-I, D-II

Options :

485584151165. 1  
485584151166. 2  
485584151167. 3  
485584151168. 4

Question Number : 563 Question Id : 48558437793 Question Type : MCQ Option Shuffling : No Is Question Mandatory : No Calculator : None  
Response Time : N.A Think Time : N.A Minimum Instruction Time : 0  
Correct Marks : 5 Wrong Marks : 1

Question Key Details :

Key	Value
Comprehension	MCQ

Who among the following developed the process of pasteurization?

1. Nicolas Apert
2. Nicolas Pasteur
3. Appert Pasteur
4. Louis Pasteur

Options :

485584151169. 1  
485584151170. 2  
485584151171. 3  
485584151172. 4

Question Number : 563 Question Id : 48558437793 Question Type : MCQ Option Shuffling : No Is Question Mandatory : No Calculator : None  
Response Time : N.A Think Time : N.A Minimum Instruction Time : 0  
Correct Marks : 5 Wrong Marks : 1

Question Key Details :

Key	Value
Comprehension	MCQ

पाश्चुरीकरण की प्रक्रिया को किसने विकसित किया?

1. निकोलस एपर्ट
2. निकोलस पाश्चर
3. एपर्ट पाश्चर
4. लुइस पाश्चर

**Options :**

485584151169. 1  
485584151170. 2  
485584151171. 3  
485584151172. 4

**Question Number : 563 Question Id : 48558437793 Question Type : MCQ Option Shuffling : No Is Question Mandatory : No Calculator : None Response Time : N.A Think Time : N.A Minimum Instruction Time : 0**

**Correct Marks : 5 Wrong Marks : 1**

**Question Key Details :**

Key	Value
Comprehension	MCQ

பின்வருவனவற்றில் பேஸ்டூரைசேஷன் செயல்முறையை உருவாக்கியது யார்?

1. நிக்கோலஸ் அப்பெர்ட்
2. நிக்கோலஸ் பாஸ்டர்
3. அப்பர்ட் பாஸ்டர்
4. லூயிஸ் பாஸ்டர்

**Options :**

485584151169. 1  
485584151170. 2  
485584151171. 3  
485584151172. 4

**Question Number : 564 Question Id : 48558437794 Question Type : MCQ Option Shuffling : No Is Question Mandatory : No Calculator : None Response Time : N.A Think Time : N.A Minimum Instruction Time : 0**

**Correct Marks : 5 Wrong Marks : 1**

**Question Key Details :**

Key	Value
Comprehension	MCQ

Central agency responsible for adoption in India is \_\_\_\_\_.

1. CARA
2. SOS
3. ICDS
4. NSS

**Options :**

485584151173. 1  
485584151174. 2  
485584151175. 3  
485584151176. 4



Question Number : 564 Question Id : 48558437794 Question Type : MCQ Option Shuffling : No Is Question Mandatory : No Calculator : None  
Response Time : N.A Think Time : N.A Minimum Instruction Time : 0

Correct Marks : 5 Wrong Marks : 1

Question Key Details :

Key	Value
Comprehension	MCQ

भारत में गोद लेने की प्रक्रिया के लिए निर्धारित केंद्रीय एजेंसी है \_\_\_\_\_।

1. सीएआरए
2. एसओएस
3. आईसीडीएस
4. एनएसएस

Options :

485584151173. 1

485584151174. 2

485584151175. 3

485584151176. 4

Question Number : 564 Question Id : 48558437794 Question Type : MCQ Option Shuffling : No Is Question Mandatory : No Calculator : None  
Response Time : N.A Think Time : N.A Minimum Instruction Time : 0

Correct Marks : 5 Wrong Marks : 1

Question Key Details :

Key	Value
Comprehension	MCQ

இந்தியாவில் தத்தெடுப்பதற்கு பொறுப்பான மத்திய நிறுவனம் \_\_\_\_ ஆகும்.

1. காரா
2. SOS
3. ICDS
4. என்.எஸ்.எஸ்.

Options :

485584151173. 1

485584151174. 2

485584151175. 3

485584151176. 4

Question Number : 565 Question Id : 48558437795 Question Type : MCQ Option Shuffling : No Is Question Mandatory : No Calculator : None  
Response Time : N.A Think Time : N.A Minimum Instruction Time : 0

Correct Marks : 5 Wrong Marks : 1

Question Key Details :

Key	Value
Comprehension	MCQ

Denims were designed by \_\_\_\_\_.

1. Levi Strauss
2. Louis XIV
3. Issac Singer
4. Elias Howe

**Options :**

- 485584151177. 1
- 485584151178. 2
- 485584151179. 3
- 485584151180. 4

**Question Number : 565 Question Id : 48558437795 Question Type : MCQ Option Shuffling : No Is Question Mandatory : No Calculator : None Response Time : N.A Think Time : N.A Minimum Instruction Time : 0 Correct Marks : 5 Wrong Marks : 1**

**Question Key Details :**

Key	Value
Comprehension	MCQ

डेनिम किसके द्वारा डिजाइन किया गया था :

- 1. लियोर्ड स्ट्रॉस
- 2. लुई XIV
- 3. आइजेक सिंगर
- 4. एलिया हार

**Options :**

- 485584151177. 1
- 485584151178. 2
- 485584151179. 3
- 485584151180. 4

**Question Number : 565 Question Id : 48558437795 Question Type : MCQ Option Shuffling : No Is Question Mandatory : No Calculator : None Response Time : N.A Think Time : N.A Minimum Instruction Time : 0 Correct Marks : 5 Wrong Marks : 1**

**Question Key Details :**

Key	Value
Comprehension	MCQ

டெனிம்கள் \_\_ என்பவரால் வடிவமைக்கப்பட்டன.

- 1. லெவி ஸ்ட்ராஸ்
- 2. பதினான்காம் லூயி
- 3. ஐசக் சிங்கர்
- 4. எலியாஸ் ஹார்

**Options :**

- 485584151177. 1
- 485584151178. 2
- 485584151179. 3
- 485584151180. 4

**Question Number : 566 Question Id : 48558437796 Question Type : MCQ Option Shuffling : No Is Question Mandatory : No Calculator : None Response Time : N.A Think Time : N.A Minimum Instruction Time : 0 Correct Marks : 5 Wrong Marks : 1**

**Question Key Details :**

Key	Value
Comprehension	MCQ

Which of the following is NOT an example of welfare catering?

1. Dharmashalas
2. Mid-day meals in schools
3. Wine bar
4. Creches

Options :

485584151181. 1  
485584151182. 2  
485584151183. 3  
485584151184. 4

Question Number : 566 Question Id : 48558437796 Question Type : MCQ Option Shuffling : No Is Question Mandatory : No Calculator : None  
Response Time : N.A Think Time : N.A Minimum Instruction Time : 0  
Correct Marks : 5 Wrong Marks : 1

Question Key Details :

Key	Value
Comprehension	MCQ

निम्नलिखित में से कौन कल्याण भोजन सेवा का उदाहरण नहीं है ?

1. धर्मशाला
2. विद्यालयों में मिड-डे मील
3. वाइन बार
4. शिशु-गृह (क्रेच)

Options :

485584151181. 1  
485584151182. 2  
485584151183. 3  
485584151184. 4

Question Number : 566 Question Id : 48558437796 Question Type : MCQ Option Shuffling : No Is Question Mandatory : No Calculator : None  
Response Time : N.A Think Time : N.A Minimum Instruction Time : 0  
Correct Marks : 5 Wrong Marks : 1

Question Key Details :

Key	Value
Comprehension	MCQ

பின்வருவனவற்றில் எது நலன்புரி கேட்டரிங்கிற்கு ஒரு எடுத்துக்காட்டு அல்ல?

1. தர்மசாலாக்கள்
2. பள்ளிகளில் மதிய உணவு
3. ஓயின் பார்
4. குழந்தைகள் காப்பகங்கள்

Options :

485584151181. 1  
485584151182. 2  
485584151183. 3  
485584151184. 4

Question Number : 567 Question Id : 48558437797 Question Type : MCQ Option Shuffling : No Is Question Mandatory : No Calculator : None  
Response Time : N.A Think Time : N.A Minimum Instruction Time : 0

Correct Marks : 5 Wrong Marks : 1

Question Key Details :

Key	Value
Comprehension	MCQ

As per NCF (2005) Position Paper published by NCERT, the basic objectives of ECCE include:

- A. Preparation for school
- B. Meals for all the children
- C. Holistic development of the child
- D. Immunisation

Choose the correct answer from the options given below:

1. A and C only
2. A and D only
3. B and C only
4. A and B only

Options :

- 485584151185. 1
- 485584151186. 2
- 485584151187. 3
- 485584151188. 4

Question Number : 567 Question Id : 48558437797 Question Type : MCQ Option Shuffling : No Is Question Mandatory : No Calculator : None  
Response Time : N.A Think Time : N.A Minimum Instruction Time : 0

Correct Marks : 5 Wrong Marks : 1

Question Key Details :

Key	Value
Comprehension	MCQ

एनसीईआरटी (NCERT) द्वारा प्रकाशित एनसीई (2005) पोजीशन पेपर के अनुसार ईसीसीई (ECCE) के मूल उद्देश्य हैं :

- A. विद्यालय के लिए तैयारी
- B. सभी बच्चों के लिए भोजन
- C. बच्चे का समग्र विकास
- D. प्रतिरक्षण

नीचे दिए गए विकल्पों में से सही उत्तर दीजिए :

1. केवल A और C
2. केवल A और D
3. केवल B और C
4. केवल A और B

Options :

- 485584151185. 1
- 485584151186. 2
- 485584151187. 3
- 485584151188. 4

Question Number : 567 Question Id : 48558437797 Question Type : MCQ Option Shuffling : No Is Question Mandatory : No Calculator : None  
Response Time : N.A Think Time : N.A Minimum Instruction Time : 0

Correct Marks : 5 Wrong Marks : 1

**Question Key Details :**

Key	Value
Comprehension	MCQ

என்.சி.இ.ஆர்.டி வெளியிட்ட என்.சி.எஃப் (2005) நிலை அறிக்கையின்படி,  
ஈ.சி.சி.இ.யின் அடிப்படை நோக்கங்கள் பின்வருமாறு:

- பாடசாலைக்கான ஆயத்தங்கள்
- அனைத்து குழந்தைகளுக்கும் உணவு
- குழந்தையின் முழுமையான வளர்ச்சி
- நோய்த்தடுப்பு

கீழே கொடுக்கப்பட்டுள்ள விருப்பங்களிலிருந்து சரியான பதிலைத் தேர்வுசெய்க:

- A மற்றும் C மட்டும்
- A மற்றும் D மட்டும்
- B மற்றும் C மட்டும்
- A மற்றும் B மட்டும்

**Options :**

485584151185. 1  
485584151186. 2  
485584151187. 3  
485584151188. 4

**Question Number : 568 Question Id : 48558437798 Question Type : MCQ Option Shuffling : No Is Question Mandatory : No Calculator : None Response Time : N.A Think Time : N.A Minimum Instruction Time : 0**

**Correct Marks : 5 Wrong Marks : 1**

**Question Key Details :**

Key	Value
Comprehension	MCQ

Which of the following statements are correct in context of Behaviour Change Communication?

- It has evolved from an earlier term IEC
- It involves understanding people's situations
- People are brought to a rehabilitation centre for behaviour change
- Media channels are used to persuade people
- People are sent to remedial centres for behavior change

Choose the correct answer from the options given below:

- A, B, C only
- A, B, D only
- A, B, E only
- B, C, D only

**Options :**

485584151189. 1  
485584151190. 2  
485584151191. 3  
485584151192. 4

**Question Number : 568 Question Id : 48558437798 Question Type : MCQ Option Shuffling : No Is Question Mandatory : No Calculator : None Response Time : N.A Think Time : N.A Minimum Instruction Time : 0**

**Correct Marks : 5 Wrong Marks : 1**

**Question Key Details :**

Key	Value
Comprehension	MCQ

निम्न में से कौन-से कथन व्यवहार परिवर्तन संचार के बारे में सत्य हैं?

- यह एक पूर्व प्रचलित शब्द आई ई सी (IEC) से उद्धृत हुआ है
- यह व्यक्तियों की परिस्थितियों को समझने से संबंधित है
- लोगों को पुनर्वास केंद्रों पर व्यवहार परिवर्तन के लिए लाया जाता है
- मीडिया चैनल लोगों की धारणा बनाने में प्रयोग होते हैं
- लोगों को व्यवहार परिवर्तन के लिए निदान केंद्रों पर भेजा जाता है

नीचे दिए गए विकल्पों में से सही उत्तर दीजिए :

- केवल A, B और C
- केवल A, B और D
- केवल A, B और E
- केवल B, C और D

**Options :**

485584151189. 1  
485584151190. 2  
485584151191. 3  
485584151192. 4

Question Number : 568 Question Id : 48558437798 Question Type : MCQ Option Shuffling : No Is Question Mandatory : No Calculator : None  
Response Time : N.A Think Time : N.A Minimum Instruction Time : 0  
Correct Marks : 5 Wrong Marks : 1

**Question Key Details :**

Key	Value
Comprehension	MCQ

நடத்தை மாற்ற தகவல்தொடர்பின் பின்னணியில் பின்வரும் கூற்றுகளில் எது சரியானது?

- இது முந்தைய ஐ.இ.சி என்ற வார்த்தையிலிருந்து உருவானது
- இது மக்களின் நிலைமைகளைப் புரிந்துகொள்வதை உள்ளடக்கியது.
- நடத்தை மாற்றத்திற்காக மக்கள் மறுவாழ்வு மையத்திற்கு கொண்டு வரப்படுகிறார்கள்
- மக்களை நம்ப வைக்க ஊடக சேனல்கள் பயன்படுத்தப்படுகின்றன
- நடத்தை மாற்றத்திற்கான நிவாரண மையங்களுக்கு மக்கள் அனுப்பப்படுகிறார்கள்

கீழே கொடுக்கப்பட்டுள்ள விருப்பங்களிலிருந்து சரியான பதிலைத் தேர்வுசெய்க:

- A, B, C மட்டும்
- A, B, D மட்டும்
- A, B, E மட்டும்
- B, C, D மட்டும்

**Options :**

485584151189. 1  
485584151190. 2  
485584151191. 3  
485584151192. 4

Question Number : 569 Question Id : 48558437799 Question Type : MCQ Option Shuffling : No Is Question Mandatory : No Calculator : None  
 Response Time : N.A Think Time : N.A Minimum Instruction Time : 0  
 Correct Marks : 5 Wrong Marks : 1

Question Key Details :

Key	Value
Comprehension	MCQ

Match List I with List II

LIST I (Stains)		LIST II (Method of stain removal)	
A.	Lipstick	I.	Bleach in sun light
B.	Tea / coffee	II.	Rub with cut tomato and salt
C.	Ink	III.	Spread borax and pour boiling water through it
D.	Curry	IV.	Steep in metavalated spurt

Choose the correct answer from the options given below:

1. A-I, B-III, C-II, D-IV
2. A-II, B-I, C-III, D-IV
3. A-IV, B-III, C-II, D-I
4. A-III, B-II, C-IV, D-I

Options :

485584151193. 1  
 485584151194. 2  
 485584151195. 3  
 485584151196. 4

Question Number : 569 Question Id : 48558437799 Question Type : MCQ Option Shuffling : No Is Question Mandatory : No Calculator : None  
 Response Time : N.A Think Time : N.A Minimum Instruction Time : 0

Correct Marks : 5 Wrong Marks : 1

Question Key Details :

Key	Value
Comprehension	MCQ

सूची I का सूची II से मिलान कीजिए

सूची I (दाग)	सूची II (अधिकर्मक)
A. लिपस्टिक	I. धूप में विरंजित करना
B. चाय/कॉफी	II. कटे टमाटर तथा नमक के साथ रगड़ना
C. स्वाही	III. धब्बे पर बोरेक्स फैलाकर ऊपर उबलता पानी डाल
D. हरी	IV. मेथिलीकृत स्पिरिट में दुबाए

निम्नलिखित विकल्पों में से सही उत्तर का चयन कीजिए :

1. A-I, B-III, C-II, D-IV
2. A-II, B-I, C-III, D-IV
3. A-IV, B-III, C-II, D-I
4. A-III, B-II, C-IV, D-I

Options :

485584151193. 1  
 485584151194. 2  
 485584151195. 3  
 485584151196. 4

Question Number : 569 Question Id : 48558437799 Question Type : MCQ Option Shuffling : No Is Question Mandatory : No Calculator : None  
Response Time : N.A Think Time : N.A Minimum Instruction Time : 0

Correct Marks : 5 Wrong Marks : 1

Question Key Details :

Key	Value
Comprehension	MCQ

போட்டி பட்டியல் I மற்றும் பட்டியல் II

LIST I (கறைகள்)		LIST II (கறை அகற்றும் முறை)	
A.	உதட்டுச் சாயம்	I.	நூரிய ஒளியில் ப்ளீச்
B.	தேநீர் / காபி	II.	நறுக்கிய தக்காளி மற்றும் உப்பு சேர்த்து தேய்க்கவும்
C.	மை	III.	போராக்ளைஸ் பரப்பி, அதன் வழியாக கொடுக்கும் தண்ணீரை ஊற்றவும்
D.	கறி	IV.	மெத்திலோட்டட் ஆனியில் மூழ்குங்கள்

Choose the correct answer from the options given below:

1. A-I, B-III, C-II, D-IV
2. A-II, B-I, C-III, D-IV
3. A-IV, B-III, C-II, D-I
4. A-III, B-II, C-IV, D-I

Options :

485584151193. 1  
485584151194. 2  
485584151195. 3  
485584151196. 4

Question Number : 570 Question Id : 48558437800 Question Type : MCQ Option Shuffling : No Is Question Mandatory : No Calculator : None  
Response Time : N.A Think Time : N.A Minimum Instruction Time : 0

Correct Marks : 5 Wrong Marks : 1

Question Key Details :

Key	Value
Comprehension	MCQ

The mission of public health nutrition is to \_\_\_\_\_.

1. Prevent overnutrition and maintain optimal nutritional status of individual and family
2. Prevent undernutrition and maintain optimal nutritional status of individual and population
3. Prevent both over nutrition and undernutrition and maintain optimal nutritional status of population
4. Promote under and over nutritional problems of society

Options :

485584151197. 1  
485584151198. 2  
485584151199. 3  
485584151200. 4

Question Number : 570 Question Id : 48558437800 Question Type : MCQ Option Shuffling : No Is Question Mandatory : No Calculator : None  
Response Time : N.A Think Time : N.A Minimum Instruction Time : 0

Correct Marks : 5 Wrong Marks : 1



**Question Key Details :**

Key	Value
Comprehension	MCQ

सार्वजनिक स्वास्थ्य पोशाक के मिशन निम्न है।

1. अतिपोषण को रोकना और व्यक्ति और परिवार के इष्टम पोषण को बनाए रखना
2. अतिपोषण को रोकना और व्यक्ति और जनसंख्या के इष्टम पोषण को बनाए रखना
3. अतिपोषण और कुपोषण दोनों को रोकना तथा जनसंख्या के इष्टम पोषण को बनाए रखना
4. समाज के अतिपोषण और कुपोषण दोनों को बढ़ावा देना

**Options :**

485584151197. 1  
485584151198. 2  
485584151199. 3  
485584151200. 4

Question Number : 570 Question Id : 48558437800 Question Type : MCQ Option Shuffling : No Is Question Mandatory : No Calculator : None  
Response Time : N.A Think Time : N.A Minimum Instruction Time : 0  
Correct Marks : 5 Wrong Marks : 1  
Question Key Details :

Key	Value
Comprehension	MCQ

பொது சுகாதார ஊட்டச்சத்தின் நோக்கம் \_\_ ஆகும்.

1. அதிகப்படியான ஊட்டச்சத்தைத் தடுக்கவும், தனிநபர் மற்றும் குடும்பத்தினரின் உகந்த ஊட்டச்சத்து நிலையை பராமரிக்கவும்
2. ஊட்டச்சத்து குறைபாட்டைத் தடுத்தல் மற்றும் தனிநபர் மற்றும் மக்கள்தொகையின் உகந்த ஊட்டச்சத்து நிலையைப் பராமரித்தல்
3. அதிகப்படியான ஊட்டச்சத்து மற்றும் ஊட்டச்சத்து குறைபாடு இரண்டையும் தடுக்கவும், மக்களின் உகந்த ஊட்டச்சத்து நிலையை பராமரிக்கவும்
4. சமூகத்தின் ஊட்டச்சத்து பிரச்சினைகளை ஊக்குவித்தல்

**Options :**

485584151197. 1  
485584151198. 2  
485584151199. 3  
485584151200. 4

Question Number : 571 Question Id : 48558437801 Question Type : MCQ Option Shuffling : No Is Question Mandatory : No Calculator : None  
Response Time : N.A Think Time : N.A Minimum Instruction Time : 0  
Correct Marks : 5 Wrong Marks : 1  
Question Key Details :

Key	Value
Comprehension	MCQ

Placement of children with disability in mainstream school is referred to as \_\_\_\_\_.

1. Inclusive Education
2. Holistic Education
3. Integrated Education
4. Exclusive Education

**Options :**

485584151201. 1  
485584151202. 2  
485584151203. 3  
485584151204. 4

**Question Number : 571 Question Id : 48558437801 Question Type : MCQ Option Shuffling : No Is Question Mandatory : No Calculator : None Response Time : N.A Think Time : N.A Minimum Instruction Time : 0**

**Correct Marks : 5 Wrong Marks : 1**

**Question Key Details :**

Key	Value
Comprehension	MCQ

अशक्तता बच्चों को मुख्यधारा के विद्यालय में लाए जाने को प्रायः कहा जाता है।

1. समावेशी शिक्षा
2. समग्र शिक्षा
3. समेकित शिक्षा
4. अनन्य शिक्षा

**Options :**

485584151201. 1  
485584151202. 2  
485584151203. 3  
485584151204. 4

**Question Number : 571 Question Id : 48558437801 Question Type : MCQ Option Shuffling : No Is Question Mandatory : No Calculator : None Response Time : N.A Think Time : N.A Minimum Instruction Time : 0**

**Correct Marks : 5 Wrong Marks : 1**

**Question Key Details :**

Key	Value
Comprehension	MCQ

ஊழமுற்ற குழந்தைகளை பிரதான பள்ளியில் சேர்ப்பது \_\_ என்று குறிப்பிடப்படுகிறது.

1. உள்ளடக்கிய கல்வி
2. முழுமையான கல்வி
3. ஒருங்கிணைந்த கல்வி
4. பிரத்தியேக கல்வி

**Options :**

485584151201. 1  
485584151202. 2  
485584151203. 3  
485584151204. 4

Question Number : 572 Question Id : 48558437802 Question Type : MCQ Option Shuffling : No Is Question Mandatory : No Calculator : None  
Response Time : N.A Think Time : N.A Minimum Instruction Time : 0  
Correct Marks : 5 Wrong Marks : 1  
Question Key Details :

Key	Value
Comprehension	MCQ

Which among the following became the first centre of fashion in the 18<sup>th</sup> century?

1. France
2. Milan
3. Europe
4. Italy

Options :

485584151205. 1  
485584151206. 2  
485584151207. 3  
485584151208. 4

Question Number : 572 Question Id : 48558437802 Question Type : MCQ Option Shuffling : No Is Question Mandatory : No Calculator : None  
Response Time : N.A Think Time : N.A Minimum Instruction Time : 0  
Correct Marks : 5 Wrong Marks : 1  
Question Key Details :

Key	Value
Comprehension	MCQ

18 वीं शताब्दी में, इनमें से फैशन का पहला केंद्र बना था ?

1. फ्रांस
2. मिलान
3. यूरोप
4. इटली

Options :

485584151205. 1  
485584151206. 2  
485584151207. 3  
485584151208. 4

Question Number : 572 Question Id : 48558437802 Question Type : MCQ Option Shuffling : No Is Question Mandatory : No Calculator : None  
Response Time : N.A Think Time : N.A Minimum Instruction Time : 0  
Correct Marks : 5 Wrong Marks : 1  
Question Key Details :

Key	Value
Comprehension	MCQ

பின்வருவனவற்றில் எது 18 ஆம் நூற்றாண்டில் ஃபேஷனின் முதல் மையமாக மாறியது?

1. பிரான்சு
2. யிலன்
3. ஐரோப்பா
4. இத்தாலி

**Options :**

485584151205. 1  
485584151206. 2  
485584151207. 3  
485584151208. 4

**Question Number : 573 Question Id : 48558437803 Question Type : MCQ Option Shuffling : No Is Question Mandatory : No Calculator : None Response Time : N.A Think Time : N.A Minimum Instruction Time : 0**

**Correct Marks : 5 Wrong Marks : 1**

**Question Key Details :**

Key	Value
Comprehension	MCQ

Arrange the stages of fashion cycle in the correct order.

- A. Rejection of a style
- B. Increase in popularity
- C. Introduction of a style
- D. Decline in popularity
- E. Peak of popularity

1. C, D, E, B, A
2. C, B, E, D, A
3. B, C, E, D, A
4. C, E, B, D, A

**Options :**

485584151209. 1  
485584151210. 2  
485584151211. 3  
485584151212. 4

**Question Number : 573 Question Id : 48558437803 Question Type : MCQ Option Shuffling : No Is Question Mandatory : No Calculator : None Response Time : N.A Think Time : N.A Minimum Instruction Time : 0**

**Correct Marks : 5 Wrong Marks : 1**

**Question Key Details :**

Key	Value
Comprehension	MCQ

फैशन चक्र की चरणों को क्रम में व्यवस्थित करें

- A. शैली की अस्वीकृति
- B. लोकप्रियता में बढ़ोतरी
- C. नई शैली से परिचित कराना
- D. लोकप्रियता में गिरावट
- E. लोकप्रियता का शिखर

1. C, D, E, B, A

2. C, B, E, D, A

3. B, C, E, D, A

4. C, E, B, D, A

**Options :**

485584151209. 1

485584151210. 2

485584151211. 3

485584151212. 4

**Question Number : 573 Question Id : 48558437803 Question Type : MCQ Option Shuffling : No Is Question Mandatory : No Calculator : None Response Time : N.A Think Time : N.A Minimum Instruction Time : 0**

**Correct Marks : 5 Wrong Marks : 1**

**Question Key Details :**

Key	Value
Comprehension	MCQ

ஊபேஷன் சுழற்சியின் நிலைகளை சரியான வரிசையில் ஒழுங்கமைக்கவும்.

- A. ஒரு பாணியை நிராகரிப்பது
- B. பிரபலம் அதிகரிப்பு
- C. ஒரு பாணி அறிமுகம்
- D. புகழ் வீழ்ச்சி
- E. பிரபலத்தின் உச்சம்

1. சி, டி, எ, பி, ஏ

2. சி, பி, எ, டி, ஏ

3. பி, சி, எ, டி, ஏ

4. சி, எ, பி, டி, ஏ

**Options :**

485584151209. 1

485584151210. 2

485584151211. 3

485584151212. 4

**Question Number : 574 Question Id : 48558437804 Question Type : MCQ Option Shuffling : No Is Question Mandatory : No Calculator : None Response Time : N.A Think Time : N.A Minimum Instruction Time : 0**

**Correct Marks : 5 Wrong Marks : 1**

**Question Key Details :**

Key	Value
Comprehension	MCQ

The term \_\_\_\_\_ is being used globally to refer to the activities of HR professionals to attract, develop and retain employees.

1. Production Management
2. Talent Management
3. Marketing Management
4. Project Management

**Options :**

485584151213. 1  
485584151214. 2  
485584151215. 3  
485584151216. 4

**Question Number : 574 Question Id : 48558437804 Question Type : MCQ Option Shuffling : No Is Question Mandatory : No Calculator : None Response Time : N.A Think Time : N.A Minimum Instruction Time : 0 Correct Marks : 5 Wrong Marks : 1**

**Question Key Details :**

Key	Value
Comprehension	MCQ

कर्मचारियों को आकर्षित करने, और बनाए रखने के लिए मानव संसाधन पेशेवरों की गतिविधियों को संदर्भित करने के लिए शब्द का उपयोग वैश्विक स्तर पर किया जा रहा है।

1. उत्पादन प्रबंधन
2. कौशल प्रबंधन
3. विपणन प्रबंधन
4. परियोजना प्रबंधन

**Options :**

485584151213. 1  
485584151214. 2  
485584151215. 3  
485584151216. 4

**Question Number : 574 Question Id : 48558437804 Question Type : MCQ Option Shuffling : No Is Question Mandatory : No Calculator : None Response Time : N.A Think Time : N.A Minimum Instruction Time : 0**

**Correct Marks : 5 Wrong Marks : 1**

**Question Key Details :**

Key	Value
Comprehension	MCQ

\_\_\_\_\_ என்ற சொல் ஊழியர்களை ஈர்ப்பதற்கும், உருவாக்குவதற்கும், தக்கவைப்பதற்கும் மனிதவள நிபுணர்களின் நடவடிக்கைகளைக் குறிக்க உலகளவில் பயன்படுத்தப்படுகிறது.

1. உற்பத்தி முகாமைத்துவம்
2. திறமை முகாமைத்துவம்
3. சந்தைப்படுத்தல் முகாமைத்துவம்
4. கருத்திட்ட முகாமைத்துவம்

**Options :**

485584151213. 1

485584151214. 2  
485584151215. 3  
485584151216. 4

**Question Number : 575 Question Id : 48558437805 Question Type : MCQ Option Shuffling : No Is Question Mandatory : No Calculator : None**  
**Response Time : N.A Think Time : N.A Minimum Instruction Time : 0**  
**Correct Marks : 5 Wrong Marks : 1**

**Question Key Details :**

Key	Value
Comprehension	MCQ

Which development psychologist believed that young children have different ways of understanding the world and need a supportive environment to explore phenomena in their own ways?

1. Vygotsky
2. Erikson
3. Laura Berk
4. Piaget

**Options :**

485584151217. 1  
485584151218. 2  
485584151219. 3  
485584151220. 4

**Question Number : 575 Question Id : 48558437805 Question Type : MCQ Option Shuffling : No Is Question Mandatory : No Calculator : None**  
**Response Time : N.A Think Time : N.A Minimum Instruction Time : 0**  
**Correct Marks : 5 Wrong Marks : 1**

**Question Key Details :**

Key	Value
Comprehension	MCQ

किस विकास मनोविज्ञानी का ऐसा मानना है कि छोटे बच्चों में दुनिया को समझने का अपना एक अलग नजरिया होता है उन्हें अपने ढंग से हर घटनाओं को समझने के लिए एक सहायक वातावरण की आवश्यकता होती है।

1. वापगोस्की
2. इरिकसन
3. लारा बर्क
4. पियाजे

**Options :**

485584151217. 1  
485584151218. 2  
485584151219. 3  
485584151220. 4

**Question Number : 575 Question Id : 48558437805 Question Type : MCQ Option Shuffling : No Is Question Mandatory : No Calculator : None**  
**Response Time : N.A Think Time : N.A Minimum Instruction Time : 0**  
**Correct Marks : 5 Wrong Marks : 1**

**Question Key Details :**

Key	Value
Comprehension	MCQ

எந்த வளர்ச்சி உளவியலாளர் இளம் சூழ்நிலைகள் உலகைப் புரிந்துகொள்வதற்கு வெவ்வேறு வழிகளைக் கொண்டுள்ளனர் என்றும், நிகழ்வுகளை அவர்களின் சொந்த வழிகளில் ஆராய ஒரு ஆதரவான சூழல் தேவை என்றும் நம்பினார்?

1. வைகோட்ஸ்கி
2. எரிக்சன்
3. லாரா பெர்க்
4. பியாஜெட்

**Options :**

485584151217. 1  
485584151218. 2  
485584151219. 3  
485584151220. 4

**Sub-Section Number :** 2  
**Sub-Section Id :** 4855842821  
**Question Shuffling Allowed :** No  
**Is Section Default? :** null

**Question Number : 576 Question Id : 48558437806 Question Type : MCQ Option Shuffling : No Is Question Mandatory : No Calculator : None Response Time : N.A Think Time : N.A Minimum Instruction Time : 0 Correct Marks : 5 Wrong Marks : 1 Question Key Details :**

Key	Value
Comprehension	Comp1

Read the passage carefully and answer the question:

The principle micro organisms that cause food spoilage are bacteria, fungi, yeasts and moulds. They grow typically very rapidly under congenial conditions. Factors influencing microbial growth are nutrient availability, moisture, pH, oxygen levels and the presence or absence of inhibiting substances e.g. antibiotics. The activity of enzymes inherently present in foods also depends on pH and temperature. Oxidative enzymes in fresh fruits and vegetables continue to use oxygen to metabolise the glucose for energy, reducing the shelf life of fruits and vegetables. Bacteria prefer protein rich foods e.g. meat, fish, poultry, eggs, and dairy products. These are known as high risk foods. Bacteria grow at any temperature between 5-60°C. This temperature range is known as the danger zone.

What is the main purpose of oxidative enzymes?

1. To metabolise glucose for energy
2. To change the appearance
3. To increase the shelf life
4. To make nutrient easily available

**Options :**

485584151221. 1  
485584151222. 2  
485584151223. 3  
485584151224. 4

**Question Number : 576 Question Id : 48558437806 Question Type : MCQ Option Shuffling : No Is Question Mandatory : No Calculator : None Response Time : N.A Think Time : N.A Minimum Instruction Time : 0 Correct Marks : 5 Wrong Marks : 1 Question Key Details :**



Key	Value
Comprehension	Comp1

சூக்ஷ்ம ஜீவிக் சிடிதாந்த் ஜிசமீம் மிஜன பதார்த்தி கி நஹ் கர்னெ வாலெ முக்ய ஜிவாணு, கவக, யிஸ்த் ஆர் ஃகூஃடி ஹே। அபநெ ஜிவ விஜ்ஞான கெ அ஘்யான கி யாத கிஜிஃ ஜஹி அபநெ பதா கி யெ அநுகூல பரிஸ்திதயிம் மீ விஸேப்த: பஹுத ஜல்தி ப஢்தெ ஹே। சூக்ஷ்ம ஜீவிக் வுத்தி கஃ ப்ரஃபஃவித கர்னெ வாலெ ப்ரமுக்ய காரகஃ ஹே- பிஷக பதார்த்தி கி உபலஃப்யதா, நமீ pH ஆக்சிஜன கஃ ஸ்தர் ஆர் ரிஷக பதார்த்தி ஜெஸெ ப்ரதி ஜீவிக் கி உபஸ்தித யி அநுபஸ்திதி। ஸஃ஘ பதார்த்தி மீ மூலரூப ஸெ உபஸ்தித ஃஜஃ஢்மி கி கதிவிதி மீ pH ஆர் தஃப பர் நிஃர் கர்தீ ஹே। தஃஜெ ஃலி ஆர் ஸஃப்யிம் மீ உபஸ்தித ஆக்சிஜன ஃஜஃ஢்மி உர்ஜா கெ லிஃ ஸ்கூகிஸ கஃ உபஃபஃப்ய கர்னெ கெ லிஃ ஆக்சிஜன கஃ உபஃபிஜ கர்னா ஜாரீ ரஃஃதெ ஹே ஆர் ஃலி தஃப ஸஃப்யிம் கஃ ஷீல்ட் கால கம் கர்தெ ஹே। ஜிவாணு ப்ரோதீன் யுக்த ஸஃ஘ கி ப்ஸஃந்த கர்தெ ஹே। ஜெஸெ- மஃஸ, மஃஃலி, பிஃல்தீ, அண்டா ஆர் தூத நிர்மித ஸஃமக்ரீ। யெ உஃஃ ஜிஸ்திம் ஸஃ஘ கெ லிஃ ஜானெ ஜாதெ ஹே। ஜிவாணு 5-6000 °C கெ பீஃ கெ தஃபமஃன் பர் வுத்தி கர்தெ ஹே। ஃஸ தஃபமஃன் கி பர்ஃஸ கி ஸ்தரா ஜிந கெ நஃம் ஸெ ஜானா ஜாதா ஹே।

ஆக்சிஜன ஃஜஃ஢்ம கஃ முக்ய உ஢்ரேய்ய க்யஃ ஹே

1. மலிகிஜ கெ லிஃ உர்ஜா கஃ உபஃபஃப்ய கர்னா
2. ரூப ப஢்லநெ கெ லிஃ
3. ஸ்வய் ஜிவந கி ப஢்நானா
4. ஸரலஃபூர்வக் பிஷக தவ் கி உபலஃப்யதா

Options :

485584151221. 1  
485584151222. 2  
485584151223. 3  
485584151224. 4

Question Number : 576 Question Id : 48558437806 Question Type : MCQ Option Shuffling : No Is Question Mandatory : No Calculator : None  
Response Time : N.A Think Time : N.A Minimum Instruction Time : 0  
Correct Marks : 5 Wrong Marks : 1

Question Key Details :

Key	Value
Comprehension	Comp1

பத்தியெ கவனமாகப் படித்து, கேள்விக்கு பதிலளிக்கவும்:  
பாக்டீரியா, பூஞ்சை, ஈஸ்ட் மற்றும் பூஞ்சைகள் ஆகியவை உணவு கெட்டுப்போகும் முக்கிய நுண்ணுயிரிகளாகும். அவை பொதுவாக இணக்கமான சூழ்நிலைகளில் மிக விரைவாக வளர்கின்றன. நுண்ணுயிர் வளர்ச்சியை பாதிக்கும் காரணிகள் ஊட்டச்சத்து கிடைப்பது, ஈரப்பதம், பி.எச், ஆக்ஸிஜன் அளவு மற்றும் நுண்ணுயிர் எதிர்ப்பிகள் போன்ற தடுக்கும் பொருட்களின் இருப்பு அல்லது இல்லாமை. உணவுகளில் இயற்கையாகவே இருக்கும் நொதிகளின் செயல்பாடு பி.எச் மற்றும் வெப்பநிலையைப் பொறுத்தது. புதிய பழங்கள் மற்றும் காய்கறிகளில் உள்ள ஆக்ஸிஜனேற்ற நொதிகள் ஆற்றலுக்காக குளுக்கோஸை வளர்சிதை மாற்ற ஆக்ஸிஜனைப் பயன்படுத்துகின்றன, இது பழங்கள் மற்றும் காய்கறிகளின் அடுக்கு ஆயுளைக் குறைக்கிறது. பாக்டீரியா புரதம் நிறைந்த உணவுகளை விரும்புகிறது எ.கா. இறைச்சி, மீன், கோழி, முட்டை மற்றும் பால் பொருட்கள். இவை அதிக ஆபத்துள்ள உணவுகள் என்று அழைக்கப்படுகின்றன. பாக்டீரியா 5-60 டிகிரி செல்சியஸ் வெப்பநிலையில் வளரும். இந்த வெப்பநிலை வரம்பு ஆபத்து மண்டலம் என்று அழைக்கப்படுகிறது.

ஆக்ஸிஜனேற்ற நொதிகளின் முக்கிய நோக்கம் என்ன?

1. ஆற்றலுக்காக குளுக்கோஸை வளர்சிதைமாற்றம் செய்ய
2. தோற்றத்தை மாற்ற
3. அடுக்கு ஆயுளை அதிகரிக்க
4. ஊட்டச்சத்து எளிதில் கிடைக்கச் செய்ய

**Options :**

485584151221. 1  
485584151222. 2  
485584151223. 3  
485584151224. 4

**Question Number : 577 Question Id : 48558437807 Question Type : MCQ Option Shuffling : No Is Question Mandatory : No Calculator : None Response Time : N.A Think Time : N.A Minimum Instruction Time : 0**

**Correct Marks : 5 Wrong Marks : 1**

**Question Key Details :**

Key	Value
Comprehension	Compl

Read the passage carefully and answer the question:

The principle micro organisms that cause food spoilage are bacteria, fungi, yeasts and moulds. They grow typically very rapidly under congenial conditions. Factors influencing microbial growth are nutrient availability, moisture, pH, oxygen levels and the presence or absence of inhibiting substances e.g. antibiotics. The activity of enzymes inherently present in foods also depends on pH and temperature. Oxidative enzymes in fresh fruits and vegetables continue to use oxygen to metabolise the glucose for energy, reducing the shelf life of fruits and vegetables. Bacteria prefer protein rich foods e.g. meat, fish, poultry, eggs, and dairy products. These are known as high risk foods. Bacteria grow at any temperature between 5-60°C. This temperature range is known as the danger zone.

Which of the following are high risk foods?

1. Fibre rich foods
2. Protein rich foods
3. Starch rich foods
4. Fat rich foods

**Options :**

485584151225. 1  
485584151226. 2  
485584151227. 3  
485584151228. 4

**Question Number : 577 Question Id : 48558437807 Question Type : MCQ Option Shuffling : No Is Question Mandatory : No Calculator : None Response Time : N.A Think Time : N.A Minimum Instruction Time : 0**

**Correct Marks : 5 Wrong Marks : 1**

**Question Key Details :**

Key	Value
Comprehension	Compl

சூக்ஷ்ம ஜீவிக் சிடிதாந்த லிசமீம் ஢ிஜன பதார்த்தீ கி ஢஠் கரனீ வாலீ முக்ய ஜீவாணு, கவக, யீஸ்ட் ஓர் ஢கூீடீ ஢ீ. ஢பனீ ஜீவ விஜ்னா கீ ஢஠்யன கி யாட கீஜி஢் ஜ஠ீ ஢பனீ பதா கி யீ ஢னுகூல பரிஸிதயீம் மீ விசேபத: ஢஠ுத ஜல்தீ ஢டதீ ஢ீ. சூக்ஷ்ம ஜீவிக் வுடி கி ப்ர஢ாபித கரனீ வாலீ ப்ரமுக்ய காரக ஢ீ- பிஷக பதார்த்தீ கீ ஠பல஢்யதா, ஢மீ pH ஓக்சீஜன கி ஸ்தர் ஓர் ஓயக பதார்த்தீ ஜீஸீ ப்ரதி ஜீவிக் கீ ஠பஸிதயீ யா ஢னுபஸிதயீ. ஸா஠ பதார்த்தீ மீ மூலரூப ஸீ ஠பஸித ஢்ஜா஢்மூ கீ கிதிவிதி ஢ீ pH ஓர் தாப பர் ஢ிர்஢ர் கர்தீ ஢ீ. தாஜீ ஢லூ ஓர் ஸ஢்ஜயீம் மீ ஠பஸித ஓக்சீகரண ஢்ஜா஢்மூ ஠ர்ஜா கீ ஢ி஢் ஢லூகூஸ கி ஠பாப஠ய கரனீ கீ ஢ி஢் ஓக்சீஜன கி ஠பயிஜ கரனா ஜா஠ீ ஠ஸ்தீ ஢ீ ஓர் ஢லூ த஢ா ஸ஢்ஜயீம் கி ஸீல஢் கால கம் கர்தீ ஢ீ. ஜீவாணு ப்ரூதீன் யுக்த ஸா஠ கி பஸ்ட் கர்தீ ஢ீ. ஜீஸீ- மாஸ, ம஠ுதீ, பூல்தீ, ஢்டா ஓர் தூத ஢ிர்மித ஸாமத்ரீ. யீ ஠஠ ஜிஸிம் ஸா஠ கீ ஢ி஢் ஜானீ ஜாதீ ஢ீ. ஜீவாணு 5-6000 °C கீ ஢ீ஠ கீ தாபமா஢ பர் வுடி கர்தீ ஢ீ. ஢ஸ தாபமா஢ கீ ப்ராஸ கி ஸதரா ஜி஢ கீ ஢ா஢ ஸீ ஜானா ஜாதா ஢ீ.

஢ி஢்ர மீ ஸீ கி஢ ஸா ஠஠ ஜிஸிம் ஸா஠ ஢ீ?

1. ரீஷா யுக்த ஸா஠
2. ப்ரூதீன் யுக்த ஸா஠
3. ஸ்டார்வ யுக்த ஸா஠
4. தஸா யுக்த ஸா஠

Options :

485584151225. 1  
485584151226. 2  
485584151227. 3  
485584151228. 4

Question Number : 577 Question Id : 48558437807 Question Type : MCQ Option Shuffling : No Is Question Mandatory : No Calculator : None  
Response Time : N.A Think Time : N.A Minimum Instruction Time : 0  
Correct Marks : 5 Wrong Marks : 1

Question Key Details :

Key	Value
Comprehension	Comp1

பத்தியை கவனமாகப் படித்து, கேள்விக்கு பதிலளிக்கவும்:  
பாக்டீரியா, பூஞ்சை, ஈஸ்ட் மற்றும் பூஞ்சைகள் ஆகியவை உணவு கெட்டுப்போகும் முக்கிய நுண்ணுயிரிகளாகும். அவை பொதுவாக இணக்கமான சூழ்நிலைகளில் மிக விரைவாக வளர்கின்றன. நுண்ணுயிர் வளர்ச்சியை பாதிக்கும் காரணிகள் ஊட்டச்சத்து கிடைப்பது, ஈரப்பதம், பி.எச், ஆக்ஸிஜன் அளவு மற்றும் நுண்ணுயிர் எதிர்ப்பிகள் போன்ற தடுக்கும் பொருட்களின் இருப்பு அல்லது இல்லாமை. உணவுகளில் இயற்கையாகவே இருக்கும் நொதிகளின் செயல்பாடு பி.எச் மற்றும் வெப்பநிலையைப் பொறுத்தது. புதிய பழங்கள் மற்றும் காய்கறிகளில் உள்ள ஆக்ஸிஜனேற்ற நொதிகள் ஆற்றலுக்காக குளுக்கோஸை வளர்சிதை மாற்ற ஆக்ஸிஜனைப் பயன்படுத்துகின்றன, இது பழங்கள் மற்றும் காய்கறிகளின் அடுக்கு ஆயுளைக் குறைக்கிறது. பாக்டீரியா புரதம் நிறைந்த உணவுகளை விரும்புகிறது எ.கா. இறைச்சி, மீன், கோழி, முட்டை மற்றும் பால் பொருட்கள். இவை அதிக ஆபத்துள்ள உணவுகள் என்று அழைக்கப்படுகின்றன. பாக்டீரியா 5-60 டிகிரி செல்சியஸ் வெப்பநிலையில் வளரும். இந்த வெப்பநிலை வரம்பு ஆபத்து மண்டலம் என்று அழைக்கப்படுகிறது.

பின்வருவனவற்றில் எது அதிக ஆபத்துள்ள உணவுகள்?

1. நார்ச்சத்து நிறைந்த உணவுகள்
2. புரதச்சத்து நிறைந்த உணவுகள்
3. ஸ்டார்ச் நிறைந்த உணவுகள்
4. கொழுப்பு நிறைந்த உணவுகள்

**Options :**

485584151225. 1  
485584151226. 2  
485584151227. 3  
485584151228. 4

**Question Number : 578 Question Id : 48558437808 Question Type : MCQ Option Shuffling : No Is Question Mandatory : No Calculator : None Response Time : N.A Think Time : N.A Minimum Instruction Time : 0 Correct Marks : 5 Wrong Marks : 1**

**Question Key Details :**

Key	Value
Comprehension	Comp1

Read the passage carefully and answer the question:

The principle micro organisms that cause food spoilage are bacteria, fungi, yeasts and moulds. They grow typically very rapidly under congenial conditions. Factors influencing microbial growth are nutrient availability, moisture, pH, oxygen levels and the presence or absence of inhibiting substances e.g. antibiotics. The activity of enzymes inherently present in foods also depends on pH and temperature. Oxidative enzymes in fresh fruits and vegetables continue to use oxygen to metabolise the glucose for energy, reducing the shelf life of fruits and vegetables. Bacteria prefer protein rich foods e.g. meat, fish, poultry, eggs, and dairy products. These are known as high risk foods. Bacteria grow at any temperature between 5-60°C. This temperature range is known as the danger zone.

Which among the following is not the factor influencing microbial growth?

1. Moisture
2. Antibiotics
3. CO<sub>2</sub> level
4. pH

**Options :**

485584151229. 1  
485584151230. 2  
485584151231. 3  
485584151232. 4

**Question Number : 578 Question Id : 48558437808 Question Type : MCQ Option Shuffling : No Is Question Mandatory : No Calculator : None Response Time : N.A Think Time : N.A Minimum Instruction Time : 0 Correct Marks : 5 Wrong Marks : 1**

**Question Key Details :**

Key	Value
Comprehension	Comp1

சூக்ஷ்ம ஜீவிக சித்ர்தாந்த லிசமீம் ஢ிஜன பதார்த்து கி ஢஠் கரனே வாலே முக்ய ஜீவாணு, கவக, யீஸ்ட் ஓர் ஢கூ஢்டீ ஢ே। ஢பனே ஜீவ விஜ்நான கே ஢஠்யயன கி யாத கிஜி஢் ஜ஠ீ ஢ாபனே பதா கி யே ஢னுகூல பரிஸ்திதயிம் மீ விஸிஸ்த: ஢஠ுத ஜல்டீ ஢டதே ஢ே। சூக்ஷ்ம ஜீவிக வுட்லி கி ப்ர஢ாபித கரனே வாலே ப்ரமுக்ய காரக ஢ே- பிஷக பதார்த்து கி ஓபல஢்யதா, ஢மீ pH ஓக்சிஜன கி ஸ்தர் ஓர் ஓயக பதார்த்து ஜேஸே ப்ரதி ஜீவிக கி ஓபஸ்தித யா ஢னூபஸ்தித। ஸா஠ பதார்த்து மீ மூலரூப ஸே ஓபஸ்தித ஢்ஜா஢்டமி கி கிதிவிதி ஢ீ pH ஓர் தாப பர் ஢ிர்஢ர் கரதீ ஢ே। தாஜே ஢லி ஓர் ஸ஢்ஜியிம் மீ ஓபஸ்தித ஓக்சிஜன ஢்ஜா஢்டமி ஓர்ஜா கி ஢ி஢் ஢லூகிஸ கி ஓபாப஠ய கரனே கி ஢ி஢் ஓக்சிஜன கி ஓபயிஜ கரனா ஜாரீ ஸ஠தே ஢ே ஓர் ஢லி த஠ா ஸ஢்ஜியி கி ஢ீல்ட் கால கம கரதே ஢ே। ஜீவாணு ப்ரூதீன யுக்த ஸா஠ கி ப்ஸ஢்ட கரதே ஢ே। ஜேஸே- மாஸ, ம஠்டலீ, பி஢்டூர், ஢ண்டா ஓர் தூத ஢ிர்மித ஸாமுத்ரி। யே ஓ஠் ஜிஸிம் ஸா஠ கி ஢ி஢் ஜானே ஜாதே ஢ே। ஜீவாணு 5-6000 °C கே ஢ீ஠் கே தாபமான பர் வுட்லி கரதே ஢ே। ஢ஸ தாபமான கி ப்ராஸ கி ஸதரா ஜி஢ கே ஢ாம ஸே ஜானா ஜாதா ஢ே।

஢ி஢்லி஠் மீ ஸே கி஢் ஸா சூக்ஷ்ம ஜீவாணு மே வுடலீ கி ப்ர஢ாபித கே காரண ஢ீ஢ீ ஢ே?

1. ஢மீ
2. ஢்டீ஢ாயிடுக
3. CO<sub>2</sub> ஸ்தர்
4. பி஢்஠

**Options :**

485584151229. 1

485584151230. 2

485584151231. 3

485584151232. 4

**Question Number : 578 Question Id : 48558437808 Question Type : MCQ Option Shuffling : No Is Question Mandatory : No Calculator : None**

**Response Time : N.A Think Time : N.A Minimum Instruction Time : 0**

**Correct Marks : 5 Wrong Marks : 1**

**Question Key Details :**

Key	Value
Comprehension	Comp1

பத்தியை கவனமாகப் படித்து, கேள்விக்கு பதிலளிக்கவும்:  
பாக்டீரியா, பூஞ்சை, ஈஸ்ட் மற்றும் பூஞ்சைகள் ஆகியவை உணவு கெட்டுப்போகும் முக்கிய நுண்ணுயிரிகளாகும். அவை பொதுவாக இணக்கமான சூழ்நிலைகளில் மிக விரைவாக வளர்கின்றன. நுண்ணுயிர் வளர்ச்சியை பாதிக்கும் காரணிகள் ஊட்டச்சத்து கிடைப்பது, ஈரப்பதம், பி.எச், ஆக்ஸிஜன் அளவு மற்றும் நுண்ணுயிர் எதிர்ப்பிகள் போன்ற தடுக்கும் பொருட்களின் இருப்பு அல்லது இல்லாமை. உணவுகளில் இயற்கையாகவே இருக்கும் நொதிகளின் செயல்பாடு பி.எச் மற்றும் வெப்பநிலையைப் பொறுத்தது. புதிய பழங்கள் மற்றும் காய்கறிகளில் உள்ள ஆக்ஸிஜனேற்ற நொதிகள் ஆற்றலுக்காக குளுக்கோஸை வளர்சிதை மாற்ற ஆக்ஸிஜனைப் பயன்படுத்துகின்றன. இது பழங்கள் மற்றும் காய்கறிகளின் அடுக்கு ஆயுளைக் குறைக்கிறது. பாக்டீரியா புரதம் நிறைந்த உணவுகளை விரும்புகிறது எ.கா. இறைச்சி, மீன், கோழி, முட்டை மற்றும் பால் பொருட்கள். இவை அதிக ஆபத்துள்ள உணவுகள் என்று அழைக்கப்படுகின்றன. பாக்டீரியா 5-60 டிகிரி செல்சியஸ் வெப்பநிலையில் வளரும். இந்த வெப்பநிலை வரம்பு ஆபத்து மண்டலம் என்று அழைக்கப்படுகிறது.

பின்வருவனவற்றில் எது நுண்ணுயிர் வளர்ச்சியை பாதிக்கும் காரணி அல்ல?

1. ஈரக்கசிவு
2. நுண்ணுயிர் எதிர்ப்பிகள்
3. CO<sub>2</sub> நிலை
4. pH

**Options :**

485584151229. 1  
485584151230. 2  
485584151231. 3  
485584151232. 4

**Question Number : 579 Question Id : 48558437809 Question Type : MCQ Option Shuffling : No Is Question Mandatory : No Calculator : None Response Time : N.A Think Time : N.A Minimum Instruction Time : 0**

**Correct Marks : 5 Wrong Marks : 1**

**Question Key Details :**

Key	Value
Comprehension	Compl

Read the passage carefully and answer the question:

The principle micro organisms that cause food spoilage are bacteria, fungi, yeasts and moulds. They grow typically very rapidly under congenial conditions. Factors influencing microbial growth are nutrient availability, moisture, pH, oxygen levels and the presence or absence of inhibiting substances e.g. antibiotics. The activity of enzymes inherently present in foods also depends on pH and temperature. Oxidative enzymes in fresh fruits and vegetables continue to use oxygen to metabolise the glucose for energy, reducing the shelf life of fruits and vegetables. Bacteria prefer protein rich foods e.g. meat, fish, poultry, eggs, and dairy products. These are known as high risk foods. Bacteria grow at any temperature between 5-60°C. This temperature range is known as the danger zone.

Which of the following are protein rich foods?

1. Fruits
2. Fish
3. Jaggery
4. Sesame seeds

**Options :**

485584151233. 1  
485584151234. 2  
485584151235. 3  
485584151236. 4

**Question Number : 579 Question Id : 48558437809 Question Type : MCQ Option Shuffling : No Is Question Mandatory : No Calculator : None Response Time : N.A Think Time : N.A Minimum Instruction Time : 0**

**Correct Marks : 5 Wrong Marks : 1**

**Question Key Details :**

Key	Value
Comprehension	Compl

सूक्ष्म जैविक सिद्धांत जिसमें भोजन पदार्थों को नष्ट करने वाले मुख्य जीवाणु, कवक, यीस्ट और फफूँदी है। अपने जीव विज्ञान के अध्ययन को याद कीजिए जहाँ आपने पढ़ा कि ये अनुकूल परिस्थितियों में विशेषतः बहुत जल्दी बढ़ते हैं। सूक्ष्म जैविक वृद्धि का प्रभावित करने वाले प्रमुख कारक हैं- पोषक पदार्थों की उपलब्धता, नमी pH ऑक्सीजन का स्तर और रोधक पदार्थों जैसे प्रति जैविक की उपस्थिति या अनुपस्थिति। खाद्य पदार्थों में मूलरूप से उपस्थित एंजाइमों की गतिविधि भी pH और ताप पर निर्भर करती है। ताजे फलों और सब्जियों में उपस्थित ऑक्सीकरण एंजाइम उर्जा के लिए ग्लूकोस का उपापचय करने के लिए ऑक्सीजन का उपयोग करना जारी रखते हैं और फलों तथा सब्जियों का शेल्फ काल कम करते हैं। जीवाणु प्रोटीन युक्त खाद्य को पसंद करते हैं। जैसे- मांस, मछली, पोल्ट्री, अंडा और दूध निर्मित सामग्री। ये उच्च जोखिम खाद्य के लिए जाने जाते हैं। जीवाणु 5-6000 °C के बीच के तापमान पर वृद्धि करते हैं। इस तापमान की परास को खतरा जोन के नाम से जाना जाता है।

निम्नलिखित कौन सा प्रोटीन युक्त खाद्य है

1. फल
2. मछली
3. गुड़
4. शीशम बीज

Options :

485584151233. 1

485584151234. 2

485584151235. 3

485584151236. 4

Question Number : 579 Question Id : 48558437809 Question Type : MCQ Option Shuffling : No Is Question Mandatory : No Calculator : None Response Time : N.A Think Time : N.A Minimum Instruction Time : 0

Correct Marks : 5 Wrong Marks : 1

Question Key Details :

Key	Value
Comprehension	Compl

பத்தியை கவனமாகப் படித்து, கேள்விக்கு பதிலளிக்கவும்:  
பாக்டீரியா, பூஞ்சை, ஈஸ்ட் மற்றும் பூஞ்சைகள் ஆகியவை உணவு கெட்டுப்போகும் முக்கிய நுண்ணுயிரிகளாகும். அவை பொதுவாக இணக்கமான சூழ்நிலைகளில் மிக விரைவாக வளர்கின்றன. நுண்ணுயிர் வளர்ச்சியை பாதிக்கும் காரணிகள் ஊட்டச்சத்து கிடைப்பது, ஈரப்பதம், பி.எச், ஆக்ஸிஜன் அளவு மற்றும் நுண்ணுயிர் எதிர்ப்பிகள் போன்ற தடுக்கும் பொருட்களின் இருப்பு அல்லது இல்லாமை. உணவுகளில் இயற்கையாகவே இருக்கும் நொதிகளின் செயல்பாடு பி.எச் மற்றும் வெப்பநிலையைப் பொறுத்தது. புதிய பழங்கள் மற்றும் காய்கறிகளில் உள்ள ஆக்ஸிஜனேற்ற நொதிகள் ஆற்றலுக்காக குளுக்கோஸை வளர்சிதை மாற்ற ஆக்ஸிஜனைப் பயன்படுத்துகின்றன. இது பழங்கள் மற்றும் காய்கறிகளின் அடுக்கு ஆயுளைக் குறைக்கிறது. பாக்டீரியா புரதம் நிறைந்த உணவுகளை விரும்புகிறது எ.கா. இறைச்சி, மீன், கோழி, முட்டை மற்றும் பால் பொருட்கள். இவை அதிக ஆபத்துள்ள உணவுகள் என்று அழைக்கப்படுகின்றன. பாக்டீரியா 5-60 டிகிரி செல்சியஸ் வெப்பநிலையில் வளரும். இந்த வெப்பநிலை வரம்பு ஆபத்து மண்டலம் என்று அழைக்கப்படுகிறது.

பின்வருவனவற்றில் எது புரதம் நிறைந்த உணவுகள்?

1. பழங்கள்
2. மீன்
3. வெல்லம்
4. எள் விதைகள்

Options :

485584151233. 1  
485584151234. 2  
485584151235. 3  
485584151236. 4

Question Number : 580 Question Id : 48558437810 Question Type : MCQ Option Shuffling : No Is Question Mandatory : No Calculator : None  
Response Time : N.A Think Time : N.A Minimum Instruction Time : 0

Correct Marks : 5 Wrong Marks : 1

Question Key Details :

Key	Value
Comprehension	Comp1

Read the passage carefully and answer the question:

The principle micro organisms that cause food spoilage are bacteria, fungi, yeasts and moulds. They grow typically very rapidly under congenial conditions. Factors influencing microbial growth are nutrient availability, moisture, pH, oxygen levels and the presence or absence of inhibiting substances e.g. antibiotics. The activity of enzymes inherently present in foods also depends on pH and temperature. Oxidative enzymes in fresh fruits and vegetables continue to use oxygen to metabolise the glucose for energy, reducing the shelf life of fruits and vegetables. Bacteria prefer protein rich foods e.g. meat, fish, poultry, eggs, and dairy products. These are known as high risk foods. Bacteria grow at any temperature between 5-60°C. This temperature range is known as the danger zone.

Which temperature range will fall under the 'Danger Zone'?

1. 5-50°C
2. 5-40°C
3. 4-60°C
4. 5-60°C

Options :

485584151237. 1  
485584151238. 2  
485584151239. 3  
485584151240. 4

Question Number : 580 Question Id : 48558437810 Question Type : MCQ Option Shuffling : No Is Question Mandatory : No Calculator : None  
Response Time : N.A Think Time : N.A Minimum Instruction Time : 0

Correct Marks : 5 Wrong Marks : 1

Question Key Details :

Key	Value
Comprehension	Comp1



सूक्ष्म जैविक सिद्धांत जिसमें भोजन पदार्थों को नष्ट करने वाले मुख्य जीवाणु, कवक, यीस्ट और फफूँदी है। अपने जीव विज्ञान के अध्ययन को याद कीजिए जहाँ आपने पढ़ा कि ये अनुकूल परिस्थितियों में विशेषतः बहुत जल्दी बढ़ते हैं। सूक्ष्म जैविक वृद्धि का प्रभावित करने वाले प्रमुख कारक हैं- पोषक पदार्थों की उपलब्धता, नमी pH ऑक्सीजन का स्तर और रोधक पदार्थों जैसे प्रति जैविक की उपस्थिति या अनुपस्थिति। खाद्य पदार्थों में मूलरूप से उपस्थित एंजाइमों की गतिविधि भी pH और ताप पर निर्भर करती है। ताज़े फलों और सब्जियों में उपस्थित ऑक्सीकरण एंजाइम उर्जा के लिए ग्लूकोस का उपापचय करने के लिए ऑक्सीजन का उपयोग करना जारी रखते हैं और फलों तथा सब्जियों का शेल्फ काल कम करते हैं। जीवाणु प्रोटीन युक्त खाद्य को पसंद करते हैं। जैसे- मांस, मछली, पोल्ट्री, अंडा और दूध निर्मित सामग्री। ये उच्च जोखिम खाद्य के लिए जाने जाते हैं। जीवाणु 5-6000 °C के बीच के तापमान पर वृद्धि करते हैं। इस तापमान की परास को खतरा जोन के नाम से जाना जाता है।

निम्न में 'खतरा जोन' के अर्थात तापमान का परास क्या है ?

1. 5-50°C
2. 5-40°C
3. 4-60°C
4. 5-60°C

**Options :**

485584151237. 1  
485584151238. 2  
485584151239. 3  
485584151240. 4

**Question Number : 580 Question Id : 48558437810 Question Type : MCQ Option Shuffling : No Is Question Mandatory : No Calculator : None Response Time : N.A Think Time : N.A Minimum Instruction Time : 0 Correct Marks : 5 Wrong Marks : 1**

**Question Key Details :**

Key	Value
Comprehension	Comp1

பத்தியை கவனமாகப் படித்து, கேள்விக்கு பதிலளிக்கவும்:  
பாக்டீரியா, பூஞ்சை, ஈஸ்ட் மற்றும் பூஞ்சைகள் ஆகியவை உணவு கெட்டுப்போகும் முக்கிய நுண்ணுயிரிகளாகும். அவை பொதுவாக இணக்கமான சூழ்நிலைகளில் மிக விரைவாக வளர்கின்றன. நுண்ணுயிர் வளர்ச்சியை பாதிக்கும் காரணிகள் ஊட்டச்சத்து கிடைப்பது, ஈரப்பதம், பி.எச், ஆக்ஸிஜன் அளவு மற்றும் நுண்ணுயிர் எதிர்ப்பிகள் போன்ற தடுக்கும் பொருட்களின் இருப்பு அல்லது இல்லாமை. உணவுகளில் இயற்கையாகவே இருக்கும் நொதிகளின் செயல்பாடு பி.எச் மற்றும் வெப்பநிலையைப் பொறுத்தது. புதிய பழங்கள் மற்றும் காய்கறிகளில் உள்ள ஆக்ஸிஜனேற்ற நொதிகள் ஆற்றலுக்காக குளுக்கோஸை வளர்சிதை மாற்ற ஆக்ஸிஜனைப் பயன்படுத்துகின்றன. இது பழங்கள் மற்றும் காய்கறிகளின் அடுக்கு ஆயுளைக் குறைக்கிறது. பாக்டீரியா புரதம் நிறைந்த உணவுகளை விரும்புகிறது எ.கா. இறைச்சி, மீன், கோழி, முட்டை மற்றும் பால் பொருட்கள். இவை அதிக ஆபத்துள்ள உணவுகள் என்று அழைக்கப்படுகின்றன. பாக்டீரியா 5-60 டிகிரி செல்சியஸ் வெப்பநிலையில் வளரும். இந்த வெப்பநிலை வரம்பு ஆபத்து மண்டலம் என்று அழைக்கப்படுகிறது.

எந்த வெப்பநிலை வரம்பு 'அபாய மண்டலத்தின்' கீழ் வரும்?

1. 5-50°C
2. 5-40°C
3. 4-60°C
4. 5-60°C

**Options :**

485584151237. 1  
485584151238. 2  
485584151239. 3

485584151240. 4

**Sub-Section Number :** 3  
**Sub-Section Id :** 4855842822  
**Question Shuffling Allowed :** No  
**Is Section Default? :** null

**Question Number : 581 Question Id : 48558437811 Question Type : MCQ Option Shuffling : No Is Question Mandatory : No Calculator : None Response Time : N.A Think Time : N.A Minimum Instruction Time : 0 Correct Marks : 5 Wrong Marks : 1**

**Question Key Details :**

Key	Value
Comprehension	Comp2

Read the given passage carefully and answer :

Cognitive skills are required to be able to comprehend an issue. Creative skills are required to project the issues and concepts in a creative way to attract attention and make an impact. Any student with skills in media designing, production and technical instrument handling will have an advantage while undertaking assignments or jobs with media houses and advertising agencies.

Technical skills - Those interested to work as a development filmmaker need to know camera techniques and video production apart from content development and implementation. Apart from these, skill in editing comes handy for marketing management.

DCJ professionals need to learn the technical skills to operate equipment correctly to optimise their presentations. They need to learn laws and regulations about what they can and cannot do. Developing presentation techniques to deliver smooth and entertaining programs along with interviewing techniques are important. They need to learn about the computers used to operate the station, basic radio production skills using suitable software and how to write a creative brief that effectively communicates.

What skills are required to project the issues in an interesting manner?

1. Cognitive skills
2. Communication skills
3. Creative skills
4. Technical skills

**Options :**

485584151241. 1  
485584151242. 2  
485584151243. 3  
485584151244. 4

**Question Number : 581 Question Id : 48558437811 Question Type : MCQ Option Shuffling : No Is Question Mandatory : No Calculator : None Response Time : N.A Think Time : N.A Minimum Instruction Time : 0**

Correct Marks : 5 Wrong Marks : 1

Question Key Details :

Key	Value
Comprehension	Comp2

दिए गए गद्यांश को ध्यानपूर्वक पढ़िए और उत्तर दीजिए:

किसी मुद्दे को समझने में सक्षम होने के लिए संज्ञानात्मक कौशल की आवश्यकता होती है। ध्यान आकर्षित करने और प्रभाव उत्पाने के लिए रचनात्मक तरीके से मुद्दों और अवधारणाओं को प्रोजेक्ट करने के लिए रचनात्मक कौशल की आवश्यकता होती है। मीडिया डिजाइनिंग, प्रोडक्शन और टेक्निकल इंस्ट्रूमेंट हैंडलिंग में कौशल रखने वाले किसी भी छात्र को मीडिया हाउस और विज्ञापन एजेंसियों के साथ असाइनमेंट या जॉब करते समय फायदा होगा।

तकनीकी कौशल - एक विकास फिल्म निर्माता के रूप में काम करने के इच्छुक लोगों को सामग्री विकास और कार्यान्वयन के अलावा कैमरा तकनीक और वीडियो उत्पादन की जानकारी होनी चाहिए। इनके अलावा एडिटिंग की स्किल मार्केटिंग मैनेजमेंट के काम आती है।

सीसीजे पेशेवरों को अपनी प्रस्तुतियों को अनुकूलित करने के लिए उपकरणों को सही ढंग से संचालित करने के लिए तकनीकी कौशल सीखने की आवश्यकता है। उन्हें कानूनों और विनियमों के बारे में जानने की जरूरत है कि वे क्या कर सकते हैं और क्या नहीं। साक्षात्कार तकनीकों के साथ सहज और मनोरंजक कार्यक्रम देने के लिए प्रस्तुति तकनीक विकसित करना महत्वपूर्ण है। उन्हें स्टेशन को संचालित करने के लिए उपयोग किए जाने वाले कंप्यूटर, उपयुक्त सॉफ्टवेयर का उपयोग करके बुनियादी रेडियो उत्पादन कौशल और प्रभावी ढंग से संचार करने वाले रचनात्मक संक्षिप्त को कैसे लिखना है, के बारे में जानने की आवश्यकता है।

दिलचस्प तरीके से मुद्दों को पेश करने के लिए कौन से कौशल की आवश्यकता है?

1. संज्ञानात्मक कौशल
2. संचार कौशल
3. रचनात्मक कौशल
4. तकनीकी कौशल

Options :

485584151241. 1  
485584151242. 2  
485584151243. 3  
485584151244. 4

Question Number : 581 Question Id : 48558437811 Question Type : MCQ Option Shuffling : No Is Question Mandatory : No Calculator : None Response Time : N.A Think Time : N.A Minimum Instruction Time : 0

Correct Marks : 5 Wrong Marks : 1

Question Key Details :

Key	Value
Comprehension	Comp2

கொடுக்கப்பட்ட பத்தியை கவனமாகப் படித்து பதிலளிக்கவும்:  
 ஒரு பிரச்சினையை புரிந்து கொள்ள அறிவாற்றல் திறன்கள் தேவை. கவனத்தை ஈர்ப்பதற்கும் தாக்கத்தை ஏற்படுத்துவதற்கும் சிக்கல்களையும் கருத்துகளையும் ஆக்கபூர்வமான வழியில் முன்வைக்க படைப்பாற்றல் திறன்கள் தேவை. ஊடக வடிவமைப்பு, தயாரிப்பு மற்றும் தொழில்நுட்ப கருவி கையாளுதல் ஆகியவற்றில் திறமையான எந்தவொரு மாணவரும் ஊடக நிறுவனங்கள் மற்றும் விளம்பர நிறுவனங்களுடன் பணிகள் அல்லது வேலைகளை மேற்கொள்ளும்போது ஒரு நன்மையைப் பெறுவார்கள்.

தொழில்நுட்ப திறன்கள் - ஒரு மேம்பாட்டு திரைப்படத் தயாரிப்பாளராக பணியாற்ற ஆர்வமுள்ளவர்கள் உள்ளடக்க மேம்பாடு மற்றும் செயலாக்கத்தைத் தவிர கேமரா துப்பங்கள் மற்றும் வீடியோ தயாரிப்பு ஆகியவற்றை அறிந்திருக்க வேண்டும். இவை தவிர, மார்க்கெட்டிங் மேனேஜ்மென்ட்டுக்கு எட்டிங் திறமையும் கைகொடுக்கிறது.

டி.சி.ஜே வல்லுநர்கள் தங்கள் விளக்கக்காட்சிகளை மேம்படுத்த உபகரணங்களை சரியாக இயக்குவதற்கான தொழில்நுட்ப திறன்களைக் கற்றுக்கொள்ள வேண்டும். அவர்களால் என்ன செய்ய முடியும், என்ன செய்யக்கூடாது என்பது குறித்த சட்டங்களையும் ஒழுங்குமுறைகளையும் அவர்கள் கற்றுக்கொள்ள வேண்டும். நேர்காணல் துப்பங்களுடன் மென்மையான மற்றும் பொழுதுபோக்கு நிகழ்ச்சிகளை வழங்க விளக்கக்காட்சி துப்பங்களை உருவாக்குவது முக்கியம். நிலையத்தை இயக்க பயன்படுத்தப்படும் கணினிகள், பொருத்தமான மென்பொருளைப் பயன்படுத்தி அடிப்படை வானொலி உற்பத்தி திறன்கள் மற்றும் திறம்பட தொடர்பு கொள்ளும் ஆக்கபூர்வமான சுருக்கத்தை எவ்வாறு எழுதுவது என்பது பற்றி அவர்கள் கற்றுக்கொள்ள வேண்டும்.

சிக்கல்களை சுவாரஸ்யமான முறையில் முன்வைக்க என்ன திறன்கள் தேவை?

1. அறிவாற்றல் திறன்கள்
2. தகவல் தொடர்பு திறன்கள்
3. படைப்பாற்றல் திறன்கள்
4. தொழில்நுட்ப திறன்கள்

**Options :**

485584151241. 1  
 485584151242. 2  
 485584151243. 3  
 485584151244. 4

Question Number : 582 Question Id : 48558437812 Question Type : MCQ Option Shuffling : No Is Question Mandatory : No Calculator : None  
 Response Time : N.A Think Time : N.A Minimum Instruction Time : 0

Correct Marks : 5 Wrong Marks : 1

Question Key Details :

Key	Value
Comprehension	Comp2

Read the given passage carefully and answer :

Cognitive skills are required to be able to comprehend an issue. Creative skills are required to project the issues and concepts in a creative way to attract attention and make an impact. Any student with skills in media designing, production and technical instrument handling will have an advantage while undertaking assignments or jobs with media houses and advertising agencies.

Technical skills - Those interested to work as a development filmmaker need to know camera techniques and video production apart from content development and implementation. Apart from these, skill in editing comes handy for marketing management.

DCJ professionals need to learn the technical skills to operate equipment correctly to optimise their presentations. They need to learn laws and regulations about what they can and cannot do. Developing presentation techniques to deliver smooth and entertaining programs along with interviewing techniques are important. They need to learn about the computers used to operate the station, basic radio production skills using suitable software and how to write a creative brief that effectively communicates.

DCJ professionals need to learn the technical skills for \_\_\_\_\_.

1. Projecting the idea in a creative manner
2. Effective communication
3. Content development
4. Operating equipment correctly to optimise their presentations

Options :

485584151245. 1

485584151246. 2

485584151247. 3

485584151248. 4

Question Number : 582 Question Id : 48558437812 Question Type : MCQ Option Shuffling : No Is Question Mandatory : No Calculator : None

Response Time : N.A Think Time : N.A Minimum Instruction Time : 0

Correct Marks : 5 Wrong Marks : 1

Question Key Details :

Key	Value
Comprehension	Comp2

दिए गए गद्यांश को ध्यानपूर्वक पढ़िए और उत्तर दीजिए:

किसी मुद्दे को समझने में सक्षम होने के लिए संज्ञानात्मक कौशल की आवश्यकता होती है। ध्यान आकर्षित करने और प्रभाव उत्पन्न करने के लिए रचनात्मक तरीके से मुद्दों और अवधारणाओं को प्रोजेक्ट करने के लिए रचनात्मक कौशल की आवश्यकता होती है। मीडिया डिजाइनिंग, प्रोडक्शन और टेक्निकल इंस्ट्रूमेंट हैंडलिंग में कौशल रखने वाले किसी भी छात्र को मीडिया हाउस और विज्ञापन एजेंसियों के साथ असाइनमेंट या जॉब करते समय फायदा होगा।

तकनीकी कौशल - एक विकास फिल्म निर्माता के रूप में काम करने के इच्छुक लोगों को सामग्री विकास और कार्यान्वयन के अलावा कैमरा तकनीक और वीडियो उत्पादन की जानकारी होनी चाहिए। इनके अलावा एडिटिंग की स्किल मार्केटिंग मैनेजमेंट के काम आती है।

डीसीजे पेशेवरों को अपनी प्रस्तुतियों को अनुकूलित करने के लिए उपकरणों को सही ढंग से संचालित करने के लिए तकनीकी कौशल सीखने की आवश्यकता है। उन्हें कानूनों और विनियमों के बारे में जानने की जरूरत है कि वे क्या कर सकते हैं और क्या नहीं। साक्षात्कार तकनीकों के साथ सहज और मनोरंजक कार्यक्रम देने के लिए प्रस्तुति तकनीक विकसित करना महत्वपूर्ण है। उन्हें स्टेशन को संचालित करने के लिए उपयोग किए जाने वाले कंप्यूटर, उपयुक्त सॉफ्टवेयर का उपयोग करके बुनियादी रेडियो उत्पादन कौशल और प्रभावी ढंग से संचार करने वाले रचनात्मक संक्षिप्त को कैसे लिखना है, के बारे में जानने की आवश्यकता है।

डीसीजे पेशेवरों को \_\_\_\_\_ के लिए तकनीकी कौशल सीखने की जरूरत है।

1. विचार को रचनात्मक तरीके से पेश करने
2. प्रभावी संचार
3. सामग्री विकास
4. ऑपरेटिंग उपकरण सही ढंग से अपनी प्रस्तुतियों को अनुकूलित करने

**Options :**

485584151245. 1  
485584151246. 2  
485584151247. 3  
485584151248. 4

**Question Number : 582 Question Id : 48558437812 Question Type : MCQ Option Shuffling : No Is Question Mandatory : No Calculator : None Response Time : N.A Think Time : N.A Minimum Instruction Time : 0 Correct Marks : 5 Wrong Marks : 1 Question Key Details :**

Key	Value
Comprehension	Comp2

கொடுக்கப்பட்ட பத்தியை கவனமாகப் படித்து பதிலளிக்கவும்:  
ஒரு பிரச்சினையை புரிந்து கொள்ள அறிவாற்றல் திறன்கள் தேவை. கவனத்தை ஈர்ப்பதற்கும் தாக்கத்தை ஏற்படுத்துவதற்கும் சிக்கல்களையும் கருத்துகளையும் ஆக்கபூர்வமான வழியில் முன்வைக்க படைப்பாற்றல் திறன்கள் தேவை. ஊடக வடிவமைப்பு, தயாரிப்பு மற்றும் தொழில்நுட்ப கருவி கையாளுதல் ஆகியவற்றில் திறமையான எந்தவொரு மாணவரும் ஊடக நிறுவனங்கள் மற்றும் விளம்பர நிறுவனங்களுடன் பணிகள் அல்லது வேலைகளை மேற்கொள்ளும்போது ஒரு நன்மையைப் பெறுவார்கள்.  
தொழில்நுட்ப திறன்கள் - ஒரு மேம்பாட்டு திரைப்படத் தயாரிப்பாளராக பணியாற்ற ஆர்வமுள்ளவர்கள் உள்ளடக்க மேம்பாடு மற்றும் செயலாக்கத்தைத் தவிர கேமரா துப்பங்கள் மற்றும் வீடியோ தயாரிப்பு ஆகியவற்றை அறிந்திருக்க வேண்டும். இவை தவிர, மார்க்கெட்டிங் மேனேஜ்மென்ட்டுக்கு எட்டிங் திறமையும் கைகொடுக்கிறது.  
டி.சி.ஜே வல்லுநர்கள் தங்கள் விளக்கக்காட்சிகளை மேம்படுத்த உபகரணங்களை சரியாக இயக்குவதற்கான தொழில்நுட்ப திறன்களைக் கற்றுக்கொள்ள வேண்டும். அவர்களால் என்ன செய்ய முடியும், என்ன செய்யக்கூடாது என்பது குறித்த சட்டங்களையும் ஒழுங்குமுறைகளையும் அவர்கள் கற்றுக்கொள்ள வேண்டும். நேர்காணல் துப்பங்களுடன் மென்மையான மற்றும் பொழுதுபோக்கு நிகழ்ச்சிகளை வழங்க விளக்கக்காட்சி துப்பங்களை உருவாக்குவது முக்கியம். நிலையத்தை இயக்க பயன்படுத்தப்படும் கணினிகள், பொருத்தமான மென்பொருளைப் பயன்படுத்தி அடிப்படை வானொலி உற்பத்தி திறன்கள் மற்றும் திறம்பட தொடர்பு கொள்ளும் ஆக்கபூர்வமான கருக்கத்தை எவ்வாறு எழுதுவது என்பது பற்றி அவர்கள் கற்றுக்கொள்ள வேண்டும்.

டி.சி.ஜே வல்லுநர்கள் \_க்கான தொழில்நுட்ப நிறைகளைக் கற்றுக்கொள்ள வேண்டும்.

1. யோசனையை ஆக்கப்பூர்வமான முறையில் முன்வைப்பது
2. பயனுள்ள தகவல்தொடர்பு
3. உள்ளடக்க மேம்பாடு
4. விளக்கக்காட்சிகளை மேம்படுத்த உபகரணங்களை சரியாக இயக்குதல்

**Options :**

- 485584151245. 1
- 485584151246. 2
- 485584151247. 3
- 485584151248. 4

**Question Number : 583 Question Id : 48558437813 Question Type : MCQ Option Shuffling : No Is Question Mandatory : No Calculator : None Response Time : N.A Think Time : N.A Minimum Instruction Time : 0**

**Correct Marks : 5 Wrong Marks : 1**

**Question Key Details :**

Key	Value
Comprehension	Comp2

Read the given passage carefully and answer :

Cognitive skills are required to be able to comprehend an issue. Creative skills are required to project the issues and concepts in a creative way to attract attention and make an impact. Any student with skills in media designing, production and technical instrument handling will have an advantage while undertaking assignments or jobs with media houses and advertising agencies.

Technical skills - Those interested to work as a development filmmaker need to know camera techniques and video production apart from content development and implementation. Apart from these, skill in editing comes handy for marketing management.

DCJ professionals need to learn the technical skills to operate equipment correctly to optimise their presentations. They need to learn laws and regulations about what they can and cannot do. Developing presentation techniques to deliver smooth and entertaining programs along with interviewing techniques are important. They need to learn about the computers used to operate the station, basic radio production skills using suitable software and how to write a creative brief that effectively communicates.

Which among the following skills are required to comprehend an issue?

1. Creative skills
2. Cognitive skills
3. Technical skills
4. Communication skills

**Options :**

- 485584151249. 1
- 485584151250. 2
- 485584151251. 3
- 485584151252. 4

**Question Number : 583 Question Id : 48558437813 Question Type : MCQ Option Shuffling : No Is Question Mandatory : No Calculator : None Response Time : N.A Think Time : N.A Minimum Instruction Time : 0**

**Correct Marks : 5 Wrong Marks : 1**

**Question Key Details :**

Key	Value
Comprehension	Comp2

दिए गए गद्यांश को ध्यानपूर्वक पढ़िए और उत्तर दीजिए:

किसी मुद्दे को समझने में सक्षम होने के लिए संज्ञानात्मक कौशल की आवश्यकता होती है। ध्यान आकर्षित करने और प्रभाव डालने के लिए रचनात्मक तरीके से मुद्दों और अवधारणाओं को प्रोजेक्ट करने के लिए रचनात्मक कौशल की आवश्यकता होती है। मीडिया डिजाइनिंग, प्रोडक्शन और टेक्निकल इंस्ट्रूमेंट हैंडलिंग में कौशल रखने वाले किसी भी छात्र को मीडिया हाउस और प्रशासन एजेंसियों के साथ असाइनमेंट या जॉब करते समय फायदा होगा।

तकनीकी कौशल - एक विकास फिल्म निर्माता के रूप में काम करने के इच्छुक लोगों को सामग्री विकास और कार्यान्वयन के अलावा कैमरा तकनीक और वीडियो उत्पादन की जानकारी होनी चाहिए। इनके अलावा एडिटिंग की स्किल मार्केटिंग मैनेजमेंट के काम आती है।

डीसीजे पेशेवरों को अपनी प्रस्तुतियों को अनुकूलित करने के लिए उपकरणों को सही ढंग से संचालित करने के लिए तकनीकी कौशल सीखने की आवश्यकता है। उन्हें कानूनों और विनियमों के बारे में जानने की जरूरत है कि वे क्या कर सकते हैं और क्या नहीं। साक्षात्कार तकनीकों के साथ सहज और मनोरंजक कार्यक्रम देने के लिए प्रस्तुति तकनीक विकसित करना महत्वपूर्ण है। उन्हें स्टेशन को संचालित करने के लिए उपयोग किए जाने वाले कंप्यूटर, उपयुक्त सॉफ्टवेयर का उपयोग करके बुनियादी रेडियो उत्पादन कौशल और प्रभावी ढंग से संचार करने वाले रचनात्मक संक्षिप्त को कैसे लिखना है, के बारे में जानने की आवश्यकता है।

किसी मुद्दे को समझने के लिए निम्नलिखित में से किस कौशल की आवश्यकता है?

1. रचनात्मक कौशल
2. संज्ञानात्मक कौशल
3. तकनीकी कौशल
4. संचार कौशल

**Options :**

485584151249. 1

485584151250. 2

485584151251. 3

485584151252. 4

**Question Number : 583 Question Id : 48558437813 Question Type : MCQ Option Shuffling : No Is Question Mandatory : No Calculator : None Response Time : N.A Think Time : N.A Minimum Instruction Time : 0**

**Correct Marks : 5 Wrong Marks : 1**

**Question Key Details :**

Key	Value
Comprehension	Comp2



கொடுக்கப்பட்ட பத்தியை கவனமாகப் படித்து பதிலளிக்கவும்:  
 ஒரு பிரச்சினையை புரிந்து கொள்ள அறிவாற்றல் திறன்கள் தேவை. கவனத்தை ஈர்ப்பதற்கும் தாக்கத்தை ஏற்படுத்துவதற்கும் சிக்கல்களையும் கருத்துகளையும் ஆக்கபூர்வமான வழியில் முன்வைக்க படைப்பாற்றல் திறன்கள் தேவை. ஊடக வடிவமைப்பு, தயாரிப்பு மற்றும் தொழில்நுட்ப கருவி கையாளுதல் ஆகியவற்றில் திறமையான எந்தவொரு மாணவரும் ஊடக நிறுவனங்கள் மற்றும் விளம்பர நிறுவனங்களுடன் பணிகள் அல்லது வேலைகளை மேற்கொள்ளும்போது ஒரு நன்மையைப் பெறுவார்கள்.  
 தொழில்நுட்ப திறன்கள் - ஒரு மேம்பாட்டு திரைப்படத் தயாரிப்பாளராக பணியாற்ற ஆர்வமுள்ளவர்கள் உள்ளடக்க மேம்பாடு மற்றும் செயலாக்கத்தைத் தவிர கேமரா துப்பங்கள் மற்றும் வீடியோ தயாரிப்பு ஆகியவற்றை அறிந்திருக்க வேண்டும். இவை தவிர, மார்க்கெட்டிங் மேனேஜ்மென்ட்டுக்கு எட்டிங் திறமையும் கைகொடுக்கிறது.  
 டி.சி.ஜே வல்லுநர்கள் தங்கள் விளக்கக்காட்சிகளை மேம்படுத்த உபகரணங்களை சரியாக இயக்குவதற்கான தொழில்நுட்ப திறன்களைக் கற்றுக்கொள்ள வேண்டும். அவர்களால் என்ன செய்ய முடியும், என்ன செய்யக்கூடாது என்பது குறித்த சட்டங்களையும் ஒழுங்குமுறைகளையும் அவர்கள் கற்றுக்கொள்ள வேண்டும். நேரகாணல் துப்பங்களுடன் மென்மையான மற்றும் பொழுதுபோக்கு நிகழ்ச்சிகளை வழங்க விளக்கக்காட்சி துப்பங்களை உருவாக்குவது முக்கியம். நிலையத்தை இயக்க பயன்படுத்தப்படும் கணினிகள், பொருத்தமான மென்பொருளைப் பயன்படுத்தி அடிப்படை வானொலி உற்பத்தி திறன்கள் மற்றும் திறம்பட தொடர்பு கொள்ளும் ஆக்கபூர்வமான சுருக்கத்தை எவ்வாறு எழுதுவது என்பது பற்றி அவர்கள் கற்றுக்கொள்ள வேண்டும்.

ஒரு சிக்கலைப் புரிந்துகொள்ள பின்வருவனவற்றில் எது தேவை?

1. படைப்பாற்றல் திறன்கள்
2. அறிவாற்றல் திறன்கள்
3. தொழில்நுட்ப திறன்கள்
4. தகவல் தொடர்பு திறன்கள்

**Options :**

485584151249. 1  
 485584151250. 2  
 485584151251. 3  
 485584151252. 4

**Question Number : 584 Question Id : 48558437814 Question Type : MCQ Option Shuffling : No Is Question Mandatory : No Calculator : None Response Time : N.A Think Time : N.A Minimum Instruction Time : 0 Correct Marks : 5 Wrong Marks : 1 Question Key Details :**

Key	Value
Comprehension	Comp2

Read the given passage carefully and answer :

Cognitive skills are required to be able to comprehend an issue. Creative skills are required to project the issues and concepts in a creative way to attract attention and make an impact. Any student with skills in media designing, production and technical instrument handling will have an advantage while undertaking assignments or jobs with media houses and advertising agencies.

Technical skills - Those interested to work as a development filmmaker need to know camera techniques and video production apart from content development and implementation. Apart from these, skill in editing comes handy for marketing management.

DCJ professionals need to learn the technical skills to operate equipment correctly to optimise their presentations. They need to learn laws and regulations about what they can and cannot do. Developing presentation techniques to deliver smooth and entertaining programs along with interviewing techniques are important. They need to learn about the computers used to operate the station, basic radio production skills using suitable software and how to write a creative brief that effectively communicates.

A person aspiring to become a filmmaker is NOT required to possess \_\_\_\_\_ skill.

1. Camera skills
2. Culinary skills
3. Video production skills
4. Content development and editing skills

Options :

485584151253. 1

485584151254. 2

485584151255. 3

485584151256. 4

Question Number : 584 Question Id : 48558437814 Question Type : MCQ Option Shuffling : No Is Question Mandatory : No Calculator : None

Response Time : N.A Think Time : N.A Minimum Instruction Time : 0

Correct Marks : 5 Wrong Marks : 1

Question Key Details :

Key	Value
Comprehension	Comp2

दिए गए गद्यांश को ध्यानपूर्वक पढ़िए और उत्तर दीजिए:

किसी मुद्दे को समझने में सक्षम होने के लिए संज्ञानात्मक कौशल की आवश्यकता होती है। ध्यान आकर्षित करने और प्रभाव उत्पन्न करने के लिए रचनात्मक तरीके से मुद्दों और अवधारणाओं को प्रोजेक्ट करने के लिए रचनात्मक कौशल की आवश्यकता होती है। मीडिया डिजाइनिंग, प्रोडक्शन और टेक्निकल इंस्ट्रूमेंट हैंडलिंग में कौशल रखने वाले किसी भी छात्र को मीडिया हाउस और विज्ञापन एजेंसियों के साथ असाइनमेंट या जॉब करते समय फायदा होगा।

तकनीकी कौशल - एक विकास फिल्म निर्माता के रूप में काम करने के इच्छुक लोगों को सामग्री विकास और कार्यान्वयन के अलावा कैमरा तकनीक और वीडियो उत्पादन की जानकारी होनी चाहिए। इनके अलावा एडिटिंग की स्किल मार्केटिंग मैनेजमेंट के काम आती है।

डीसीजे पेशेवरों को अपनी प्रस्तुतियों को अनुकूलित करने के लिए उपकरणों को सही ढंग से संचालित करने के लिए तकनीकी कौशल सीखने की आवश्यकता है। उन्हें कानूनों और विनियमों के बारे में जानने की जरूरत है कि वे क्या कर सकते हैं और क्या नहीं। साक्षात्कार तकनीकों के साथ सहज और मनोरंजक कार्यक्रम देने के लिए प्रस्तुति तकनीक विकसित करना महत्वपूर्ण है। उन्हें स्टेशन को संचालित करने के लिए उपयोग किए जाने वाले कंप्यूटर, उपयुक्त सॉफ्टवेयर का उपयोग करके बुनियादी रेडियो उत्पादन कौशल और प्रभावी ढंग से संचार करने वाले रचनात्मक संक्षिप्त को कैसे लिखना है, के बारे में जानने की आवश्यकता है।

फिल्म निर्माता बनने के इच्छुक व्यक्ति के पास \_\_\_\_\_ कौशल होना आवश्यक नहीं है।

1. कैमरा कौशल
2. पाठ कला
3. वीडियो उत्पादन कौशल
4. सामग्री विकास और संपादन कौशल

Options :

485584151253. 1  
485584151254. 2  
485584151255. 3  
485584151256. 4

Question Number : 584 Question Id : 48558437814 Question Type : MCQ Option Shuffling : No Is Question Mandatory : No Calculator : None  
Response Time : N.A Think Time : N.A Minimum Instruction Time : 0  
Correct Marks : 5 Wrong Marks : 1

Question Key Details :

Key	Value
Comprehension	Comp2

கொடுக்கப்பட்ட பத்தியை கவனமாகப் படித்து பதிலளிக்கவும்:  
ஒரு பிரச்சினையை புரிந்து கொள்ள அறிவாற்றல் திறன்கள் தேவை. கவனத்தை ஈர்ப்பதற்கும் தாக்கத்தை ஏற்படுத்துவதற்கும் சிக்கல்களையும் கருத்துகளையும் ஆக்கபூர்வமான வழியில் முன்வைக்க படைப்பாற்றல் திறன்கள் தேவை. ஊடக வடிவமைப்பு, தயாரிப்பு மற்றும் தொழில்நுட்ப கருவி கையாளுதல் ஆகியவற்றில் திறமையான எந்தவொரு மாணவரும் ஊடக நிறுவனங்கள் மற்றும் விளம்பர நிறுவனங்களுடன் பணிகள் அல்லது வேலைகளை மேற்கொள்ளும்போது ஒரு நன்மையைப் பெறுவார்கள்.  
தொழில்நுட்ப திறன்கள் - ஒரு மேம்பாட்டு திரைப்படத் தயாரிப்பாளராக பணியாற்ற ஆர்வமுள்ளவர்கள் உள்ளடக்க மேம்பாடு மற்றும் செயலாக்கத்தைத் தவிர கேமரா துப்பங்கள் மற்றும் வீடியோ தயாரிப்பு ஆகியவற்றை அறிந்திருக்க வேண்டும். இவை தவிர, மார்க்கெட்டிங் மேனேஜ்மென்ட்டுக்கு எட்டிங் திறமையும் கைகொடுக்கிறது.  
டி.சி.ஜே வல்லுநர்கள் தங்கள் விளக்கக்காட்சிகளை மேம்படுத்த உபகரணங்களை சரியாக இயக்குவதற்கான தொழில்நுட்ப திறன்களைக் கற்றுக்கொள்ள வேண்டும். அவர்களால் என்ன செய்ய முடியும், என்ன செய்யக்கூடாது என்பது குறித்த சட்டங்களையும் ஒழுங்குமுறைகளையும் அவர்கள் கற்றுக்கொள்ள வேண்டும். நேர்காணல் துப்பங்களுடன் மென்மையான மற்றும் பொழுதுபோக்கு நிகழ்ச்சிகளை வழங்க விளக்கக்காட்சி துப்பங்களை உருவாக்குவது முக்கியம். நிலையத்தை இயக்க பயன்படுத்தப்படும் கணினிகள், பொருத்தமான மென்பொருளைப் பயன்படுத்தி அடிப்படை வானொலி உற்பத்தி திறன்கள் மற்றும் திறம்பட தொடர்பு கொள்ளும் ஆக்கபூர்வமான சுருக்கத்தை எவ்வாறு எழுதுவது என்பது பற்றி அவர்கள் கற்றுக்கொள்ள வேண்டும்.

திரைப்படத் தயாரிப்பாளராக விரும்பும் ஒருவர் \_\_\_\_\_ skill கொண்டிருக்க வேண்டிய அவசியமில்லை.

1. கேமரா திறன்கள்
2. சமையல் திறன்கள்
3. வீடியோ தயாரிப்பு திறன்கள்
4. உள்ளடக்க மேம்பாடு மற்றும் எடிட்டிங் திறன்கள்

**Options :**

485584151253. 1  
485584151254. 2  
485584151255. 3  
485584151256. 4

**Question Number : 585 Question Id : 48558437815 Question Type : MCQ Option Shuffling : No Is Question Mandatory : No Calculator : None Response Time : N.A Think Time : N.A Minimum Instruction Time : 0**

**Correct Marks : 5 Wrong Marks : 1**

**Question Key Details :**

Key	Value
Comprehension	Comp2

Read the given passage carefully and answer :

Cognitive skills are required to be able to comprehend an issue. Creative skills are required to project the issues and concepts in a creative way to attract attention and make an impact. Any student with skills in media designing, production and technical instrument handling will have an advantage while undertaking assignments or jobs with media houses and advertising agencies.

Technical skills - Those interested to work as a development filmmaker need to know camera techniques and video production apart from content development and implementation. Apart from these, skill in editing comes handy for marketing management.

DCJ professionals need to learn the technical skills to operate equipment correctly to optimise their presentations. They need to learn laws and regulations about what they can and cannot do. Developing presentation techniques to deliver smooth and entertaining programs along with interviewing techniques are important. They need to learn about the computers used to operate the station, basic radio production skills using suitable software and how to write a creative brief that effectively communicates.

Which among the following career options will be best suited for a person having all the skills required for a Development Communication and Journalism.

1. Food service manager
2. Human development expert
3. Manager at media houses
4. Apparel merchandiser

**Options :**

485584151257. 1  
485584151258. 2  
485584151259. 3  
485584151260. 4

**Question Number : 585 Question Id : 48558437815 Question Type : MCQ Option Shuffling : No Is Question Mandatory : No Calculator : None Response Time : N.A Think Time : N.A Minimum Instruction Time : 0**

**Correct Marks : 5 Wrong Marks : 1**

**Question Key Details :**

Key	Value
Comprehension	Comp2

दिए गए गद्यांश को ध्यानपूर्वक पढ़िए और उत्तर दीजिए:

किसी मुद्दे को समझने में सक्षम होने के लिए संज्ञानात्मक कौशल की आवश्यकता होती है। ध्यान आकर्षित करने और प्रभाव उत्पन्न करने के लिए रचनात्मक तरीके से मुद्दों और अवधारणाओं को प्रोजेक्ट करने के लिए रचनात्मक कौशल की आवश्यकता होती है। मीडिया डिजाइनिंग, प्रोडक्शन और टेक्निकल इंस्ट्रूमेंट हैंडलिंग में कौशल रखने वाले किसी भी छात्र को मीडिया हाउस और विज्ञापन एजेंसियों के साथ असाइनमेंट या जॉब करते समय फायदा होगा।

तकनीकी कौशल - एक विकास फिल्म निर्माता के रूप में काम करने के इच्छुक लोगों को सामग्री विकास और कार्यान्वयन के अलावा कैमरा तकनीक और वीडियो उत्पादन की जानकारी होनी चाहिए। इनके अलावा एडिटिंग की स्किल मार्केटिंग मैनेजमेंट के काम आती है।

सीसीजे पेशेवरों को अपनी प्रस्तुतियों को अनुकूलित करने के लिए उपकरणों को सही ढंग से संचालित करने के लिए तकनीकी कौशल सीखने की आवश्यकता है। उन्हें कानूनों और विनियमों के बारे में जानने की जरूरत है कि वे क्या कर सकते हैं और क्या नहीं। साक्षात्कार तकनीकों के साथ सहज और मनोरंजक कार्यक्रम देने के लिए प्रस्तुति तकनीक विकसित करना महत्वपूर्ण है। उन्हें स्टेशन को संचालित करने के लिए उपयोग किए जाने वाले कंप्यूटर, उपयुक्त सॉफ्टवेयर का उपयोग करके बुनियादी रेडियो उत्पादन कौशल और प्रभावी ढंग से संचार करने वाले रचनात्मक संक्षिप्त को कैसे लिखना है, के बारे में जानने की आवश्यकता है।

विकास संचार और पत्रकारिता के लिए आवश्यक सभी कौशल रखने वाले व्यक्ति के लिए निम्नलिखित में से कौन सा कैरियर विकल्प सबसे उपयुक्त होगा।

1. खाद्य सेवा प्रबंधक
2. मानव विकास विशेषज्ञ
3. मीडिया हाउस में मैनेजर
4. परिधान व्यापारी

**Options :**

485584151257. 1  
485584151258. 2  
485584151259. 3  
485584151260. 4

Question Number : 585 Question Id : 48558437815 Question Type : MCQ Option Shuffling : No Is Question Mandatory : No Calculator : None  
Response Time : N.A Think Time : N.A Minimum Instruction Time : 0

Correct Marks : 5 Wrong Marks : 1

**Question Key Details :**

Key	Value
Comprehension	Comp2

கொடுக்கப்பட்ட பத்தியை கவனமாகப் படித்து பதிலளிக்கவும்:  
 ஒரு பிரச்சினையை புரிந்து கொள்ள அறிவாற்றல் திறன்கள் தேவை. கவனத்தை ஈர்ப்பதற்கும் தாக்கத்தை ஏற்படுத்துவதற்கும் சிக்கல்களையும் கருத்துகளையும் ஆக்கபூர்வமான வழியில் முன்வைக்க படைப்பாற்றல் திறன்கள் தேவை. ஊடக வடிவமைப்பு, தயாரிப்பு மற்றும் தொழில்நுட்ப கருவி கையாளுதல் ஆகியவற்றில் திறமையான எந்தவொரு மாணவரும் ஊடக நிறுவனங்கள் மற்றும் விளம்பர நிறுவனங்களுடன் பணிகள் அல்லது வேலைகளை மேற்கொள்ளும்போது ஒரு நன்மையைப் பெறுவார்கள்.

தொழில்நுட்ப திறன்கள் - ஒரு மேம்பாட்டு திரைப்படத் தயாரிப்பாளராக பணியாற்ற ஆர்வமுள்ளவர்கள் உள்ளடக்க மேம்பாடு மற்றும் செயலாக்கத்தைத் தவிர கேமரா துப்பங்கள் மற்றும் வீடியோ தயாரிப்பு ஆகியவற்றை அறிந்திருக்க வேண்டும். இவை தவிர, மார்க்கெட்டிங் மேனேஜ்மென்ட்டுக்கு எட்டிங் திறமையும் கைகொடுக்கிறது.

டி.சி.ஜே வல்லுநர்கள் தங்கள் விளக்கக்காட்சிகளை மேம்படுத்த உபகரணங்களை சரியாக இயக்குவதற்கான தொழில்நுட்ப திறன்களைக் கற்றுக்கொள்ள வேண்டும். அவர்களால் என்ன செய்ய முடியும், என்ன செய்யக்கூடாது என்பது குறித்த சட்டங்களையும் ஒழுங்குமுறைகளையும் அவர்கள் கற்றுக்கொள்ள வேண்டும். நேர்காணல் துப்பங்களுடன் மென்மையான மற்றும் பொழுதுபோக்கு நிகழ்ச்சிகளை வழங்க விளக்கக்காட்சி துப்பங்களை உருவாக்குவது முக்கியம். நிலையத்தை இயக்க பயன்படுத்தப்படும் கணினிகள், பொருத்தமான மென்பொருளைப் பயன்படுத்தி அடிப்படை வானொலி உற்பத்தி திறன்கள் மற்றும் திரைப்பட தொடர்பு கொள்ளும் ஆக்கபூர்வமான சுருக்கத்தை எவ்வாறு எழுதுவது என்பது பற்றி அவர்கள் கற்றுக்கொள்ள வேண்டும்.

அபிவிருத்தி தொடர்பாடல் மற்றும் இதழியலுக்குத் தேவையான அனைத்துத் திறன்களையும் கொண்ட ஒரு நபருக்கு பின்வரும் தொழில் விருப்பங்களில் எது மிகவும் பொருத்தமானதாக இருக்கும்.

1. உணவு சேவை மேலாளர்
2. மனித மேம்பாட்டு நிபுணர்
3. ஊடக நிறுவனங்களின் முகாமையாளர்
4. ஆடை விற்பனையாளர்

Options :

485584151257. 1

485584151258. 2

485584151259. 3

485584151260. 4

## Mass Media

Group Number :	12
Group Id :	485584861
Group Maximum Duration :	45
Group Minimum Duration :	45
Show Attended Group? :	No
Edit Attended Group? :	No
Break time :	0
Group Marks :	200
Is this Group for Examiner? :	No
Examiner permission :	Cant View
Show Progress Bar? :	No

## Mass Media

Section Id :	485584991
Section Number :	1
Section type :	Online
Mandatory or Optional :	Mandatory
Number of Questions :	50
Number of Questions to be attempted :	40
Section Marks :	200
Enable Mark as Answered Mark for Review and Clear Response :	Yes
Maximum Instruction Time :	0
Sub-Section Number :	1
Sub-Section Id :	4855842823
Question Shuffling Allowed :	Yes
Is Section Default? :	null

Question Number : 586 Question Id : 48558437231 Question Type : MCQ Option Shuffling : No Is Question Mandatory : No Calculator : None  
Response Time : N.A Think Time : N.A Minimum Instruction Time : 0

Correct Marks : 5 Wrong Marks : 1

Question Key Details :

Key	Value
Comprehension	MCQ

When a news report carries the name of the reporter in a newspaper, it is called:

1. Below the line
2. Over the line
3. Byline
4. Underline

Options :

- 485584148921. 1
- 485584148922. 2
- 485584148923. 3
- 485584148924. 4

Question Number : 586 Question Id : 48558437231 Question Type : MCQ Option Shuffling : No Is Question Mandatory : No Calculator : None  
Response Time : N.A Think Time : N.A Minimum Instruction Time : 0

Correct Marks : 5 Wrong Marks : 1

Question Key Details :

Key	Value
Comprehension	MCQ

जब अखबार में रिपोर्ट, पत्रकार के नाम के साथ हो, कहलाती है :

1. रेखा के नीचे
2. रेखा के ऊपर
3. रेखा से
4. रेखाकित

Options :

- 485584148921. 1
- 485584148922. 2
- 485584148923. 3
- 485584148924. 4

Question Number : 587 Question Id : 48558437232 Question Type : MCQ Option Shuffling : No Is Question Mandatory : No Calculator : None  
Response Time : N.A Think Time : N.A Minimum Instruction Time : 0

Correct Marks : 5 Wrong Marks : 1

Question Key Details :

Key	Value
Comprehension	MCQ

Who said, "for a successful functioning of democracy, the average men be well informed to make good choices".

1. Walter Lipmann
2. Majid Jehranian
3. Amartya Sen
4. Harold Laswell

Options :

485584148925. 1  
485584148926. 2  
485584148927. 3  
485584148928. 4

Question Number : 587 Question Id : 48558437232 Question Type : MCQ Option Shuffling : No Is Question Mandatory : No Calculator : None  
Response Time : N.A Think Time : N.A Minimum Instruction Time : 0

Correct Marks : 5 Wrong Marks : 1

Question Key Details :

Key	Value
Comprehension	MCQ

"लोकतंत्र की सफलतापूर्वक चलाने के लिए, औसत व्यक्ति को भी अच्छे चुनाव की जानकारी हो" किसने कहा :

1. वाल्टर लिपमनन
2. माजिद जेहरानियन
3. अमर्त्य सेन
4. हेराल्ड लासवेल

Options :

485584148925. 1  
485584148926. 2  
485584148927. 3  
485584148928. 4

Question Number : 588 Question Id : 48558437233 Question Type : MCQ Option Shuffling : No Is Question Mandatory : No Calculator : None  
Response Time : N.A Think Time : N.A Minimum Instruction Time : 0

Correct Marks : 5 Wrong Marks : 1

Question Key Details :

Key	Value
Comprehension	MCQ



What is the meaning of 'nose for news'?

- A. capability to smell
- B. good news hunting capabilities
- C. ability to find news worthy stories
- D. good communication skills
- E. capability to handle news equipments

Choose the correct answer from the options given below:

- 1. A, D, E, only
- 2. B, C only
- 3. B, C, D only
- 4. C, D only

Options :

485584148929. 1

485584148930. 2

485584148931. 3

485584148932. 4

Question Number : 588 Question Id : 48558437233 Question Type : MCQ Option Shuffling : No Is Question Mandatory : No Calculator : None

Response Time : N.A Think Time : N.A Minimum Instruction Time : 0

Correct Marks : 5 Wrong Marks : 1

Question Key Details :

Key	Value
Comprehension	MCQ

'समाचार की खोज सूँघ' का क्या मतलब है ?

- A. सूँघने कि क्षमता
- B. अच्छी खबरों को खोजने की क्षमता
- C. समाचार योग्य कहानियाँ खोजने की क्षमता
- D. अच्छे संचार कौशल
- E. समाचार पत्रों की अच्छी पकड़ की क्षमता

नीचे दिए गये कूट से सही उत्तर का चुनाव कीजिए :

- 1. केवल A, D, E,
- 2. केवल B, C
- 3. केवल B, C, D
- 4. केवल C, D

Options :

485584148929. 1

485584148930. 2

485584148931. 3

485584148932. 4

Question Number : 589 Question Id : 48558437234 Question Type : MCQ Option Shuffling : No Is Question Mandatory : No Calculator : None

Response Time : N.A Think Time : N.A Minimum Instruction Time : 0

Correct Marks : 5 Wrong Marks : 1

Question Key Details :

Key	Value
Comprehension	MCQ

'Tube of Plenty' is another name for

1. Radio
2. Television
3. Mobile Phone
4. You Tube

**Options :**

485584148933. 1  
485584148934. 2  
485584148935. 3  
485584148936. 4

**Question Number : 589 Question Id : 48558437234 Question Type : MCQ Option Shuffling : No Is Question Mandatory : No Calculator : None Response Time : N.A Think Time : N.A Minimum Instruction Time : 0 Correct Marks : 5 Wrong Marks : 1**

**Question Key Details :**

Key	Value
Comprehension	MCQ

ट्यूब ऑफ प्लेन्टी के लिए दूसरा नाम है

1. रेडियो
2. टेलीविजन
3. मोबाइल फोन
4. यू ट्यूब

**Options :**

485584148933. 1  
485584148934. 2  
485584148935. 3  
485584148936. 4

**Question Number : 590 Question Id : 48558437235 Question Type : MCQ Option Shuffling : No Is Question Mandatory : No Calculator : None Response Time : N.A Think Time : N.A Minimum Instruction Time : 0**

**Correct Marks : 5 Wrong Marks : 1**

**Question Key Details :**

Key	Value
Comprehension	MCQ

Identify the film which does not have a linear narrative.

1. High Noon
2. Pather Panchali
3. Anair
4. Lawrence of Arabia

**Options :**

485584148937. 1  
485584148938. 2  
485584148939. 3  
485584148940. 4

Question Number : 590 Question Id : 48558437235 Question Type : MCQ Option Shuffling : No Is Question Mandatory : No Calculator : None  
Response Time : N.A Think Time : N.A Minimum Instruction Time : 0  
Correct Marks : 5 Wrong Marks : 1

**Question Key Details :**

Key	Value
Comprehension	MCQ

फिल्म जो रेखिक कथा नहीं रखती है, पहचानिए :

1. हाई नून
2. पथेर पंचाली
3. आमिर
4. लारेन्स ऑफ अरेबिया

**Options :**

485584148937. 1  
485584148938. 2  
485584148939. 3  
485584148940. 4

Question Number : 591 Question Id : 48558437236 Question Type : MCQ Option Shuffling : No Is Question Mandatory : No Calculator : None  
Response Time : N.A Think Time : N.A Minimum Instruction Time : 0  
Correct Marks : 5 Wrong Marks : 1

**Question Key Details :**

Key	Value
Comprehension	MCQ

Which among the following is NOT a news agency?

1. AP
2. DPA
3. ABP
4. AFP

**Options :**

485584148941. 1  
485584148942. 2  
485584148943. 3  
485584148944. 4

Question Number : 591 Question Id : 48558437236 Question Type : MCQ Option Shuffling : No Is Question Mandatory : No Calculator : None  
Response Time : N.A Think Time : N.A Minimum Instruction Time : 0  
Correct Marks : 5 Wrong Marks : 1

**Question Key Details :**

Key	Value
Comprehension	MCQ

निम्न में से कौन एक समाचार एजेंसी नहीं है ?

1. ए पी
2. डी सी ए
3. ए बी पी
4. ए एफ पी

**Options :**

485584148941. 1  
 485584148942. 2  
 485584148943. 3  
 485584148944. 4

**Question Number : 592 Question Id : 48558437237 Question Type : MCQ Option Shuffling : No Is Question Mandatory : No Calculator : None**  
**Response Time : N.A Think Time : N.A Minimum Instruction Time : 0**  
**Correct Marks : 5 Wrong Marks : 1**

**Question Key Details :**

Key	Value
Comprehension	MCQ

In 1985, the Supreme Court reflecting on the role of men and women in society, said, 'It is the woman who is capable of the more effective role in the preservation of society and therefore that had to be respected.' Identify the case in which the apex court made the above observation.

1. State of Kolkata vs Deepak Das
2. State of Delhi vs Laxman Kumar
3. State of Kerala vs Keshav Kumar
4. State of Gujarat vs Manoj Desai

**Options :**

485584148945. 1  
 485584148946. 2  
 485584148947. 3  
 485584148948. 4

**Question Number : 592 Question Id : 48558437237 Question Type : MCQ Option Shuffling : No Is Question Mandatory : No Calculator : None**  
**Response Time : N.A Think Time : N.A Minimum Instruction Time : 0**  
**Correct Marks : 5 Wrong Marks : 1**

**Question Key Details :**

Key	Value
Comprehension	MCQ

1985 में, उच्चतम न्यायालय ने पुरुषों और स्त्रियों की समाज में भूमिका पर पराकाश डालते हुए कहा, 'वह महिला ही है, जो कि समृद्ध है। समाज के संरक्षण करने में और इसलिए इनका सम्मान करना चाहिए, किस मामले में सुप्रीम कोर्ट ने यह अवलोकन किया, पहचानिए

1. कोलकाता राज्य बनाम दीपक दास
2. दिल्ली राज्य बनाम लक्ष्मण कुमार
3. केरल राज्य बनाम केशव कुमार
4. गुजरात राज्य बनाम मनोज देसाई

**Options :**

485584148945. 1  
 485584148946. 2  
 485584148947. 3  
 485584148948. 4

**Question Number : 593 Question Id : 48558437238 Question Type : MCQ Option Shuffling : No Is Question Mandatory : No Calculator : None**  
**Response Time : N.A Think Time : N.A Minimum Instruction Time : 0**  
**Correct Marks : 5 Wrong Marks : 1**

**Question Key Details :**

Key	Value
Comprehension	MCQ

Which of the following are the stages of interpersonal communication:

- A. Dialogue
- B. Phatic
- C. Personal
- D. Intimate
- E. Negotiation

Choose the correct answer from the options given below:

- 1. B, C, D only
- 2. A, B, C only
- 3. B, C, E only
- 4. A, C, E only

**Options :**

- 485584148949. 1
- 485584148950. 2
- 485584148951. 3
- 485584148952. 4

**Question Number : 593 Question Id : 48558437238 Question Type : MCQ Option Shuffling : No Is Question Mandatory : No Calculator : None Response Time : N.A Think Time : N.A Minimum Instruction Time : 0**

**Correct Marks : 5 Wrong Marks : 1**

**Question Key Details :**

Key	Value
Comprehension	MCQ

अन्तरव्यैक्तिक संचार के कौन से स्तर हैं :

- A. संवाद
- B. सामाजिक संबोध
- C. व्यक्तिगत
- D. अंतरंग
- E. मोल भाव

नीचे दिए गये कूट से सही उत्तर का चुनाव कीजिए :

- 1. केवल B, C, D
- 2. केवल A, B, C
- 3. केवल B, C, E
- 4. केवल A, C, E

**Options :**

- 485584148949. 1
- 485584148950. 2
- 485584148951. 3
- 485584148952. 4

**Question Number : 594 Question Id : 48558437239 Question Type : MCQ Option Shuffling : No Is Question Mandatory : No Calculator : None Response Time : N.A Think Time : N.A Minimum Instruction Time : 0**

**Correct Marks : 5 Wrong Marks : 1**

**Question Key Details :**

Key	Value
Comprehension	MCQ

Which event introduced colour TV in India?

1. Gulf war
2. Common Wealth Games
3. Asian Games
4. T-20 Cricket matches

**Options :**

485584148953. 1  
485584148954. 2  
485584148955. 3  
485584148956. 4

**Question Number : 594 Question Id : 48558437239 Question Type : MCQ Option Shuffling : No Is Question Mandatory : No Calculator : None Response Time : N.A Think Time : N.A Minimum Instruction Time : 0 Correct Marks : 5 Wrong Marks : 1**

**Question Key Details :**

Key	Value
Comprehension	MCQ

कौन सा आयोजन कलर्स टीवी पर प्रसारित हुआ ?

1. खारी युद्ध
2. राष्ट्रमंडल खेल
3. एशियन खेल
4. टी-20 क्रिकेट मैच

**Options :**

485584148953. 1  
485584148954. 2  
485584148955. 3  
485584148956. 4

**Question Number : 595 Question Id : 48558437240 Question Type : MCQ Option Shuffling : No Is Question Mandatory : No Calculator : None Response Time : N.A Think Time : N.A Minimum Instruction Time : 0 Correct Marks : 5 Wrong Marks : 1**

**Question Key Details :**

Key	Value
Comprehension	MCQ

Name the filmmaker of the silent documentary film 'Moana' (1926)

1. Lumiere Brother
2. Robert Flaharty
3. John Grierson
4. Dada Saheb Phalke

**Options :**

485584148957. 1  
485584148958. 2  
485584148959. 3  
485584148960. 4

Question Number : 595 Question Id : 48558437240 Question Type : MCQ Option Shuffling : No Is Question Mandatory : No Calculator : None  
Response Time : N.A Think Time : N.A Minimum Instruction Time : 0

Correct Marks : 5 Wrong Marks : 1

Question Key Details :

Key	Value
Comprehension	MCQ

शांत वृत्तचित्र 'मोएना' (1926) के फिल्मकार है :

1. लुमिइरे ब्रदर्स
2. राबर्ट फ्लेहार्थी
3. जॉन प्रियर्सन
4. दादा साहेब फाल्के

Options :

485584148957. 1  
485584148958. 2  
485584148959. 3  
485584148960. 4

Question Number : 596 Question Id : 48558437241 Question Type : MCQ Option Shuffling : No Is Question Mandatory : No Calculator : None  
Response Time : N.A Think Time : N.A Minimum Instruction Time : 0

Correct Marks : 5 Wrong Marks : 1

Question Key Details :

Key	Value
Comprehension	MCQ

According to Majid Tehranian, what are the mega trends that characterize our own era?

- A. Socialization
- B. Globalization
- C. Secularism
- D. Regionalization
- E. Democratization

Choose the correct answer from the options given below:

1. A, D, E only
2. A, B, E only
3. C, B, E only
4. B, D, E only

Options :

485584148961. 1  
485584148962. 2  
485584148963. 3  
485584148964. 4

Question Number : 596 Question Id : 48558437241 Question Type : MCQ Option Shuffling : No Is Question Mandatory : No Calculator : None  
Response Time : N.A Think Time : N.A Minimum Instruction Time : 0

Correct Marks : 5 Wrong Marks : 1

Question Key Details :

Key	Value
Comprehension	MCQ

माजिद तेहरारियन के अनुसार, हमारी समकालिकता को विहित करने वाले मेगा ट्रेड्स है :

- A. समाजीकरण
- B. भूमंडलीकरण
- C. धर्मनिरपेक्षता
- D. स्थानीयकरण
- E. लोकतंत्रीकरण

निम्नलिखित विकल्पों में सही उत्तर का चयन कीजिए :

- 1. केवल A, D, E
- 2. केवल A, B, E
- 3. केवल C, B, E
- 4. केवल B, D, E

**Options :**

- 485584148961. 1
- 485584148962. 2
- 485584148963. 3
- 485584148964. 4

**Question Number : 597 Question Id : 48558437242 Question Type : MCQ Option Shuffling : No Is Question Mandatory : No Calculator : None Response Time : N.A Think Time : N.A Minimum Instruction Time : 0**

**Correct Marks : 5 Wrong Marks : 1**

**Question Key Details :**

Key	Value
Comprehension	MCQ

The full form of PHP, the general-purpose scripting programming language is

- 1. Photographic Hypertext Processor
- 2. Hypertext Photographic Processor
- 3. Hypertext Preprocessor
- 4. Purposive Hypertext Processor

**Options :**

- 485584148965. 1
- 485584148966. 2
- 485584148967. 3
- 485584148968. 4

**Question Number : 597 Question Id : 48558437242 Question Type : MCQ Option Shuffling : No Is Question Mandatory : No Calculator : None Response Time : N.A Think Time : N.A Minimum Instruction Time : 0**

**Correct Marks : 5 Wrong Marks : 1**

**Question Key Details :**

Key	Value
Comprehension	MCQ



पी एच पी का पूर्ण रूप, सामान्य प्रयोजन स्क्रिप्टिंग प्रोग्रामिंग भाषा है :

1. फोटोग्राफीक हाइपरटेक्स्ट प्रोसेसर
2. हाइपरटेक्स्ट फोटोग्राफीक प्रोसेसर
3. हाइपरटेक्स्ट प्रीप्रोसेसर
4. प्रपोसिव हाइपरटेक्स्ट प्रोसेसर

**Options :**

485584148965. 1  
485584148966. 2  
485584148967. 3  
485584148968. 4

**Question Number : 598 Question Id : 48558437243 Question Type : MCQ Option Shuffling : No Is Question Mandatory : No Calculator : None Response Time : N.A Think Time : N.A Minimum Instruction Time : 0**

**Correct Marks : 5 Wrong Marks : 1**

**Question Key Details :**

Key	Value
Comprehension	MCQ

\_\_\_\_\_ is a type of fraud that involves stealing personal information such as IPin, CVV number, etc. through email.

1. Vishing
2. Smishing
3. Phishing
4. Hacking

**Options :**

485584148969. 1  
485584148970. 2  
485584148971. 3  
485584148972. 4

**Question Number : 598 Question Id : 48558437243 Question Type : MCQ Option Shuffling : No Is Question Mandatory : No Calculator : None Response Time : N.A Think Time : N.A Minimum Instruction Time : 0**

**Correct Marks : 5 Wrong Marks : 1**

**Question Key Details :**

Key	Value
Comprehension	MCQ

\_\_\_\_\_ एक प्रकार का धोखा है जिसमें ई-मेल के माध्यम से आई.पिन, सी वी वी नंबर आदि व्यक्तिगत जानकारी का चुराना सम्मिलित है :

1. विशिंग
2. स्मिशिंग
3. फिशिंग
4. हेकिंग

**Options :**

485584148969. 1  
485584148970. 2  
485584148971. 3

485584148972. 4

**Question Number : 599 Question Id : 48558437244 Question Type : MCQ Option Shuffling : No Is Question Mandatory : No Calculator : None**  
**Response Time : N.A Think Time : N.A Minimum Instruction Time : 0**  
**Correct Marks : 5 Wrong Marks : 1**  
**Question Key Details :**

Key	Value
Comprehension	MCQ

The camera movement in horizontal direction is called

1. Dolly
2. Tilt
3. Pan
4. Zoom

**Options :**

485584148973. 1  
485584148974. 2  
485584148975. 3  
485584148976. 4

**Question Number : 599 Question Id : 48558437244 Question Type : MCQ Option Shuffling : No Is Question Mandatory : No Calculator : None**  
**Response Time : N.A Think Time : N.A Minimum Instruction Time : 0**  
**Correct Marks : 5 Wrong Marks : 1**  
**Question Key Details :**

Key	Value
Comprehension	MCQ

क्षैतिज दिशा में कैमरे के संचालन को कहते हैं :

1. डॉली
2. टिल्ट
3. पेन
4. ज़ूम

**Options :**

485584148973. 1  
485584148974. 2  
485584148975. 3  
485584148976. 4

**Question Number : 600 Question Id : 48558437245 Question Type : MCQ Option Shuffling : No Is Question Mandatory : No Calculator : None**  
**Response Time : N.A Think Time : N.A Minimum Instruction Time : 0**  
**Correct Marks : 5 Wrong Marks : 1**  
**Question Key Details :**

Key	Value
Comprehension	MCQ

Dynamic microscopes are best used in which situation?

1. for recording acoustic sounds
2. for recording songs of a singer singing during a show
3. for recording instruments
4. for recording ambient sound

**Options :**

485584148977. 1

485584148978. 2

485584148979. 3

485584148980. 4

**Question Number : 600 Question Id : 48558437245 Question Type : MCQ Option Shuffling : No Is Question Mandatory : No Calculator : None**

**Response Time : N.A Think Time : N.A Minimum Instruction Time : 0**

**Correct Marks : 5 Wrong Marks : 1**

**Question Key Details :**

Key	Value
Comprehension	MCQ

गतिशील माइक्रोस्कोप का प्रयोग किस परिस्थिति में सर्वोत्तम किया जा सकता है ?

1. ध्वनिक ध्वनियों को रिकार्ड करने के लिये
2. शो के दौरान गायक के गाये गये गीतों को रिकार्ड करने के लिये
3. उपकरणों को रिकार्ड करने के लिये
4. परिवेश ध्वनि को रिकार्ड करने के लिये

**Options :**

485584148977. 1

485584148978. 2

485584148979. 3

485584148980. 4

**Question Number : 601 Question Id : 48558437246 Question Type : MCQ Option Shuffling : No Is Question Mandatory : No Calculator : None**

**Response Time : N.A Think Time : N.A Minimum Instruction Time : 0**

**Correct Marks : 5 Wrong Marks : 1**

**Question Key Details :**

Key	Value
Comprehension	MCQ

What are the characteristics of mass audience?

- A. Heterogeneous
- B. Instant feedback
- C. Homogeneous in its choice of some programmes
- D. High in interpersonal trails
- E. It has an emotional and irrational character

Choose the correct answer from the options given below:

- 1. A and C only
- 2. A, B, D only
- 3. A, C, D only
- 4. B, C, D, E only

**Options :**

- 485584148981. 1
- 485584148982. 2
- 485584148983. 3
- 485584148984. 4

**Question Number : 601 Question Id : 48558437246 Question Type : MCQ Option Shuffling : No Is Question Mandatory : No Calculator : None**

**Response Time : N.A Think Time : N.A Minimum Instruction Time : 0**

**Correct Marks : 5 Wrong Marks : 1**

**Question Key Details :**

Key	Value
Comprehension	MCQ

विशाल दर्शक की विशेषताएं हैं :

- A. विजातीय
- B. तुरंत प्रतिपुष्टी
- C. अपनी पसंद के कुछ कार्यक्रमों में सजातीयता
- D. पारस्परिक ट्रेस में उच्चता
- E. यह एक भावनात्मक और तर्कहीन प्रवृत्ति रखता है

निम्नलिखित विकल्पों में सही उत्तर का चयन कीजिए :

- 1. केवल A और C
- 2. केवल A, B, D
- 3. केवल A, C, D
- 4. केवल B, C, D, E

**Options :**

- 485584148981. 1
- 485584148982. 2
- 485584148983. 3
- 485584148984. 4

**Question Number : 602 Question Id : 48558437247 Question Type : MCQ Option Shuffling : No Is Question Mandatory : No Calculator : None**

**Response Time : N.A Think Time : N.A Minimum Instruction Time : 0**

**Correct Marks : 5 Wrong Marks : 1**

**Question Key Details :**

Key	Value
Comprehension	MCQ

Identify the film which is not directed by Shyam Benegal.

1. Ankur
2. Manthan
3. Suraj ka Satwan Ghoda
4. Bhuvan Shome

**Options :**

485584148985. 1  
485584148986. 2  
485584148987. 3  
485584148988. 4

**Question Number : 602 Question Id : 48558437247 Question Type : MCQ Option Shuffling : No Is Question Mandatory : No Calculator : None Response Time : N.A Think Time : N.A Minimum Instruction Time : 0 Correct Marks : 5 Wrong Marks : 1 Question Key Details :**

Key	Value
Comprehension	MCQ

श्याम बेनेगल के द्वारा निर्देशित नहीं की गई फिल्मों को पहचानिए :

1. अंकुर
2. मंथन
3. सूरज का सातवाँ घोड़ा
4. भुवन सोम

**Options :**

485584148985. 1  
485584148986. 2  
485584148987. 3  
485584148988. 4

**Question Number : 603 Question Id : 48558437248 Question Type : MCQ Option Shuffling : No Is Question Mandatory : No Calculator : None Response Time : N.A Think Time : N.A Minimum Instruction Time : 0 Correct Marks : 5 Wrong Marks : 1**

**Question Key Details :**

Key	Value
Comprehension	MCQ

Which event can be considered responsible for advent of foreign channels in India?

1. Gulf war I
2. Oscars
3. World Cup Cricket
4. Asian Games

**Options :**

485584148989. 1  
485584148990. 2  
485584148991. 3  
485584148992. 4

Question Number : 603 Question Id : 48558437248 Question Type : MCQ Option Shuffling : No Is Question Mandatory : No Calculator : None  
Response Time : N.A Think Time : N.A Minimum Instruction Time : 0

Correct Marks : 5 Wrong Marks : 1

Question Key Details :

Key	Value
Comprehension	MCQ

किस आयोजन को भारत में विदेशी चैनलों के आगमन के लिए उत्तरदायी समझा जा सकता है ?

1. खाड़ी युद्ध I
2. ऑस्कर
3. क्रिकेट विश्व कप
4. एशियन खेल

Options :

485584148989. 1  
485584148990. 2  
485584148991. 3  
485584148992. 4

Question Number : 604 Question Id : 48558437249 Question Type : MCQ Option Shuffling : No Is Question Mandatory : No Calculator : None  
Response Time : N.A Think Time : N.A Minimum Instruction Time : 0

Correct Marks : 5 Wrong Marks : 1

Question Key Details :

Key	Value
Comprehension	MCQ

Arrange in chronological order the Pre-shooting stages starting from the first.

- A. Writing
- B. Budgeting
- C. Casting
- D. Shooting schedule
- E. Crew management

Choose the correct answer from the options given below:

1. A, B, C, D, E
2. A, B, C, E, D
3. B, A, C, E, D
4. A, C, B, E, D

Options :

485584148993. 1  
485584148994. 2  
485584148995. 3  
485584148996. 4

Question Number : 604 Question Id : 48558437249 Question Type : MCQ Option Shuffling : No Is Question Mandatory : No Calculator : None  
Response Time : N.A Think Time : N.A Minimum Instruction Time : 0

Correct Marks : 5 Wrong Marks : 1

Question Key Details :

Key	Value
Comprehension	MCQ

शूटिंग से पूर्व के स्तरों को कालक्रम में पहले से शुरू करके क्रम में व्यवस्थित कीजिए :

- A. लेखन
- B. वितीयन
- C. प्रक्षेप
- D. शूटिंग अनुसूची
- E. बालक दल प्रबंधन

निम्नलिखित विकल्पों में सही उत्तर का चयन कीजिए :

- 1. A, B, C, D, E
- 2. A, B, C, E, D
- 3. B, A, C, E, D
- 4. A, C, B, E, D

**Options :**

- 485584148993. 1
- 485584148994. 2
- 485584148995. 3
- 485584148996. 4

**Question Number : 605 Question Id : 48558437250 Question Type : MCQ Option Shuffling : No Is Question Mandatory : No Calculator : None Response Time : N.A Think Time : N.A Minimum Instruction Time : 0**

**Correct Marks : 5 Wrong Marks : 1**

**Question Key Details :**

Key	Value
Comprehension	MCQ

Arrange in the chronological order the launch of successful educational TV programmes in India.

- A. Krishi Darshan
- B. IGNOU - Doordarshan Telecast
- C. GYAN - Darshan Educational channel
- D. Satellite Instructional Television Experiment
- E. Vidya Vahini

Choose the correct answer from the options given below;

- 1. A, C, B, D, E
- 2. A, D, B, C, E
- 3. A, B, C, D, E
- 4. D, A, B, C, E

**Options :**

- 485584148997. 1
- 485584148998. 2
- 485584148999. 3
- 485584149000. 4

**Question Number : 605 Question Id : 48558437250 Question Type : MCQ Option Shuffling : No Is Question Mandatory : No Calculator : None Response Time : N.A Think Time : N.A Minimum Instruction Time : 0**

**Correct Marks : 5 Wrong Marks : 1**

**Question Key Details :**

Key	Value
Comprehension	MCQ

भारत में सफल शैक्षिक टीवी कार्यक्रमों के शुभारंभ की कालानुक्रमिक क्रम में व्यवस्थित कीजिए :

- A. कृषि-दर्शन
- B. इमू-दूरदर्शन प्रसारण
- C. ज्ञान - दर्शन शैक्षिक चैनल
- D. सेटेलाइट निर्देशात्मक टेलीविजन प्रयोग
- E. विद्या वाणी

निम्नलिखित विकल्पों में सही उत्तर का चयन कीजिए :

- 1. A, C, B, D, E
- 2. A, D, B, C, E
- 3. A, B, C, D, E
- 4. D, A, B, C, E

**Options :**

- 485584148997. 1
- 485584148998. 2
- 485584148999. 3
- 485584149000. 4

**Question Number : 606 Question Id : 48558437251 Question Type : MCQ Option Shuffling : No Is Question Mandatory : No Calculator : None Response Time : N.A Think Time : N.A Minimum Instruction Time : 0 Correct Marks : 5 Wrong Marks : 1**

**Question Key Details :**

Key	Value
Comprehension	MCQ

which among the following is the example of out of home advertising?

- 1. Magazine advertising
- 2. Radio advertising
- 3. Internet advertising
- 4. Bill Boards

**Options :**

- 485584149001. 1
- 485584149002. 2
- 485584149003. 3
- 485584149004. 4

**Question Number : 606 Question Id : 48558437251 Question Type : MCQ Option Shuffling : No Is Question Mandatory : No Calculator : None Response Time : N.A Think Time : N.A Minimum Instruction Time : 0 Correct Marks : 5 Wrong Marks : 1**

**Question Key Details :**

Key	Value
Comprehension	MCQ



निम्नलिखित में से कौन सा घर से बाहर विज्ञापन का उदाहरण है ?

1. पत्रिका विज्ञापन
2. रेडियो विज्ञापन
3. इंटरनेट विज्ञापन
4. बिल बोर्ड्स

**Options :**

485584149001. 1  
485584149002. 2  
485584149003. 3  
485584149004. 4

**Question Number : 607 Question Id : 48558437252 Question Type : MCQ Option Shuffling : No Is Question Mandatory : No Calculator : None Response Time : N.A Think Time : N.A Minimum Instruction Time : 0**

**Correct Marks : 5 Wrong Marks : 1**

**Question Key Details :**

Key	Value
Comprehension	MCQ

What are the steps in sequence to produce a perfect news story?

- A. Conduct the interview
- B. Write the copy
- C. Choose the best quotes
- D. Finding something to write
- E. Edit the copy

Choose the correct answer from the options given below:

1. C, A, D, E, B
2. A, D, C, B, E
3. D, A, C, B, E
4. D, B, C, A, E

**Options :**

485584149005. 1  
485584149006. 2  
485584149007. 3  
485584149008. 4

**Question Number : 607 Question Id : 48558437252 Question Type : MCQ Option Shuffling : No Is Question Mandatory : No Calculator : None Response Time : N.A Think Time : N.A Minimum Instruction Time : 0**

**Correct Marks : 5 Wrong Marks : 1**

**Question Key Details :**

Key	Value
Comprehension	MCQ

एक उत्तम समाचार कहानी निर्माण के लिए स्तरों का सही क्रम क्या है ?

- A. साक्षात्कार का आयोजन
- B. कॉपी लिखना
- C. सबसे अच्छे कथनों का चयन
- D. लिखने के लिए कुछ ढूँढना
- E. कॉपी को संपादित करना

निम्नलिखित विकल्पों में सही उत्तर का चयन कीजिए :

- 1. C, A, D, E, B
- 2. A, D, C, B, E
- 3. D, A, C, B, E
- 4. D, B, C, A, E

**Options :**

- 485584149005. 1
- 485584149006. 2
- 485584149007. 3
- 485584149008. 4

**Question Number : 608 Question Id : 48558437253 Question Type : MCQ Option Shuffling : No Is Question Mandatory : No Calculator : None Response Time : N.A Think Time : N.A Minimum Instruction Time : 0 Correct Marks : 5 Wrong Marks : 1**

**Question Key Details :**

Key	Value
Comprehension	MCQ

Lack of availability of basic infrastructure like internet, electricity, smartphone, etc. can lead to \_\_\_\_\_.

- 1. Cyber bullying
- 2. Digital divide
- 3. Low bandwidth
- 4. Conflict of network

**Options :**

- 485584149009. 1
- 485584149010. 2
- 485584149011. 3
- 485584149012. 4

**Question Number : 608 Question Id : 48558437253 Question Type : MCQ Option Shuffling : No Is Question Mandatory : No Calculator : None Response Time : N.A Think Time : N.A Minimum Instruction Time : 0 Correct Marks : 5 Wrong Marks : 1**

**Question Key Details :**

Key	Value
Comprehension	MCQ

स्मार्टफोन, बिजली, इंटरनेट आदि मूलभूत संरचना की उपलब्धता की कमी, पैदा कर सकती है :

1. साइबर बुलिंग
2. डिजिटल डिवाइड
3. कम बैंडविड्थ
4. नेटवर्क का अन्तर्द्वन्द्व

**Options :**

485584149009. 1  
485584149010. 2  
485584149011. 3  
485584149012. 4

**Question Number : 609 Question Id : 48558437254 Question Type : MCQ Option Shuffling : No Is Question Mandatory : No Calculator : None Response Time : N.A Think Time : N.A Minimum Instruction Time : 0**

**Correct Marks : 5 Wrong Marks : 1**

**Question Key Details :**

Key	Value
Comprehension	MCQ

Salutation is a formal stage of conversation. Identify its stage in interpersonal communication.

- A. The personal stage
- B. The Phatic stage
- C. The intimate stage
- D. The innovation stage
- E. The diffusion stage

Choose the correct answer from the options given below:

1. A only
2. B, C only
3. B only
4. C, D, E only

**Options :**

485584149013. 1  
485584149014. 2  
485584149015. 3  
485584149016. 4

**Question Number : 609 Question Id : 48558437254 Question Type : MCQ Option Shuffling : No Is Question Mandatory : No Calculator : None Response Time : N.A Think Time : N.A Minimum Instruction Time : 0**

**Correct Marks : 5 Wrong Marks : 1**

**Question Key Details :**

Key	Value
Comprehension	MCQ

समाधान, वार्तालाप का औपचारिक स्तर है। अन्तर्व्यक्तिक संचार संप्रेषण में इसके स्तरों को पहचानिए

- A. व्यक्तिगत स्तर
- B. सामाजिक संबोध स्तर
- C. अंतरंग स्तर
- D. अभिनय स्तर
- E. प्रसार स्तर

निम्नलिखित विकल्पों में सही उत्तर का चयन कीजिए :

- 1. केवल A
- 2. केवल B, C
- 3. केवल B
- 4. केवल C, D, E

**Options :**

- 485584149013. 1
- 485584149014. 2
- 485584149015. 3
- 485584149016. 4

**Question Number : 610 Question Id : 48558437255 Question Type : MCQ Option Shuffling : No Is Question Mandatory : No Calculator : None Response Time : N.A Think Time : N.A Minimum Instruction Time : 0**

**Correct Marks : 5 Wrong Marks : 1**

**Question Key Details :**

Key	Value
Comprehension	MCQ

Who among the following is NOT associated with founding of Youtube?

- 1. Jawed Karim
- 2. Steve Chen
- 3. Chad Hurley
- 4. Eric Yuan

**Options :**

- 485584149017. 1
- 485584149018. 2
- 485584149019. 3
- 485584149020. 4

**Question Number : 610 Question Id : 48558437255 Question Type : MCQ Option Shuffling : No Is Question Mandatory : No Calculator : None Response Time : N.A Think Time : N.A Minimum Instruction Time : 0**

**Correct Marks : 5 Wrong Marks : 1**

**Question Key Details :**

Key	Value
Comprehension	MCQ

निम्न में से कौन यू-ट्यूब की संस्थापना से जुड़ा नहीं है ?

1. जावेद करिम
2. स्टीव चेन
3. चाउ हर्ले
4. एरिक युआन

**Options :**

485584149017. 1  
485584149018. 2  
485584149019. 3  
485584149020. 4

**Question Number : 611 Question Id : 48558437256 Question Type : MCQ Option Shuffling : No Is Question Mandatory : No Calculator : None Response Time : N.A Think Time : N.A Minimum Instruction Time : 0 Correct Marks : 5 Wrong Marks : 1**

**Question Key Details :**

Key	Value
Comprehension	MCQ

Match List I with List II

LIST I		LIST II	
Types of Headlines		Name of Headline	
A.	Headline which stretches across many columns	I.	Boxed
B.	Headline which is framed in a small rectangle	II.	Flush
C.	Headline which is multi-deck	III.	Crossline
D.	Headline which is centred in column	IV.	Banner

Choose the correct answer from the options given below:

1. A-IV, B-III, C-I, D-II
2. A-IV, B-I, C-II, D-III
3. A-IV, B-II, C-III, D-I
4. A-IV, B-III, C-II, D-I

**Options :**

485584149021. 1  
485584149022. 2  
485584149023. 3  
485584149024. 4

**Question Number : 611 Question Id : 48558437256 Question Type : MCQ Option Shuffling : No Is Question Mandatory : No Calculator : None Response Time : N.A Think Time : N.A Minimum Instruction Time : 0 Correct Marks : 5 Wrong Marks : 1**

**Question Key Details :**

Key	Value
Comprehension	MCQ

सूची I का सूची II से मिलान कीजिए

सूची I सुर्खियों के प्रकार	सूची II सुर्खियों के नाम
A. हिंडताइन जो कई कालों में फैला हुआ है	I. बॉक्सर
B. हिंडताइन जो एक छोटे आकार में बनाई गई है	II. फ्लश
C. हिंडताइन जो मल्टी डेक है	III. क्रॉसलाइन
D. हिंडताइन जो कॉलमों में केंद्रित है	IV. वेनर

निम्नलिखित विकल्पों में से सही उत्तर का चयन कीजिए :

1. A-IV, B-III, C-I, D-II
2. A-IV, B-I, C-II, D-III
3. A-IV, B-II, C-III, D-I
4. A-IV, B-III, C-II, D-I

**Options :**

485584149021. 1
485584149022. 2
485584149023. 3
485584149024. 4

**Question Number : 612 Question Id : 48558437257 Question Type : MCQ Option Shuffling : No Is Question Mandatory : No Calculator : None Response Time : N.A Think Time : N.A Minimum Instruction Time : 0 Correct Marks : 5 Wrong Marks : 1**

**Question Key Details :**

Key	Value
Comprehension	MCQ

Consumer's reasons for purchasing product can be

- A. fascination with the brand
- B. loyalty with the brand
- C. cost of the product
- D. belief induced by peer pressure
- E. unavailability

Choose the correct answer from the options given below:

1. A, B, C, E only
2. B, C, D, E only
3. A, B, C, D only
4. A, B, D, E only

**Options :**

485584149025. 1
485584149026. 2
485584149027. 3
485584149028. 4

**Question Number : 612 Question Id : 48558437257 Question Type : MCQ Option Shuffling : No Is Question Mandatory : No Calculator : None Response Time : N.A Think Time : N.A Minimum Instruction Time : 0 Correct Marks : 5 Wrong Marks : 1**

**Question Key Details :**

Key	Value
Comprehension	MCQ

ग्राहक का उत्पाद खरीदने का कारण हो सकता है :

- A. ब्रांड के साथ आकर्षण
- B. ब्रांड के साथ वफादारी
- C. उत्पाद की कीमत
- D. साधियों के दबाव से प्रेरित विश्वास
- E. अनुउपलब्धता

निम्नलिखित विकल्पों में सही उत्तर का चयन कीजिए :

- 1. केवल A, B, C, E
- 2. केवल B, C, D, E
- 3. केवल A, B, C, D
- 4. केवल A, B, D, E

**Options :**

- 485584149025. 1
- 485584149026. 2
- 485584149027. 3
- 485584149028. 4

**Question Number : 613 Question Id : 48558437258 Question Type : MCQ Option Shuffling : No Is Question Mandatory : No Calculator : None Response Time : N.A Think Time : N.A Minimum Instruction Time : 0**

**Correct Marks : 5 Wrong Marks : 1**

**Question Key Details :**

Key	Value
Comprehension	MCQ

Which radio format brings together the techniques of talk and drama to tell the story?

- 1. Trailers
- 2. Feature
- 3. Article
- 4. Bulletin

**Options :**

- 485584149029. 1
- 485584149030. 2
- 485584149031. 3
- 485584149032. 4

**Question Number : 613 Question Id : 48558437258 Question Type : MCQ Option Shuffling : No Is Question Mandatory : No Calculator : None Response Time : N.A Think Time : N.A Minimum Instruction Time : 0**

**Correct Marks : 5 Wrong Marks : 1**

**Question Key Details :**

Key	Value
Comprehension	MCQ

कौन सा रेडियो प्रारूप कहानी कहने के लिए बातचीत और नाटक की तकनीकों को एक साथ लाता है :

1. ट्रेलरस्
2. फीचर
3. आर्टिकल
4. बुलेटिन

**Options :**

485584149029. 1  
485584149030. 2  
485584149031. 3  
485584149032. 4

**Question Number : 614 Question Id : 48558437259 Question Type : MCQ Option Shuffling : No Is Question Mandatory : No Calculator : None Response Time : N.A Think Time : N.A Minimum Instruction Time : 0**

**Correct Marks : 5 Wrong Marks : 1**

**Question Key Details :**

Key	Value
Comprehension	MCQ

Which of these statements are correct with respect to Headlines?

- A. Headlines capsule whole stories in few words
- B. It fits into the limited space of newspaper columns
- C. Headlines are not just summaries but attract the attention of readers
- D. Headlines need to be packed with punch
- E. Headlines are usually written in past tense

Choose the correct answer from the options given below:

1. A, B, C, D only
2. A, B, D, E only
3. A, B, D only
4. A, B, C, E only

**Options :**

485584149033. 1  
485584149034. 2  
485584149035. 3  
485584149036. 4

**Question Number : 614 Question Id : 48558437259 Question Type : MCQ Option Shuffling : No Is Question Mandatory : No Calculator : None Response Time : N.A Think Time : N.A Minimum Instruction Time : 0**

**Correct Marks : 5 Wrong Marks : 1**

**Question Key Details :**

Key	Value
Comprehension	MCQ



सुर्खियों के संबंध में, इनमें से कौन से कथन सही है ?

- A. सुर्खियां पूरी कहानियों को कुछ शब्दों में कैपसूल करती है
- B. यह समाचार पत्र के कॉलमों में सीमित जगह से फिट हो जाती है
- C. सुर्खियां केवल सारांश नहीं है
- D. सुर्खियां पंच होना चाहिए
- E. सुर्खियां अक्सर भूतकाल में लिखी होती है

निम्नलिखित विकल्पों में सही उत्तर का चयन कीजिए :

- 1. केवल A, B, C, D
- 2. केवल A, B, D, E
- 3. केवल A, B, D
- 4. केवल A, B, C, E

**Options :**

- 485584149033. 1
- 485584149034. 2
- 485584149035. 3
- 485584149036. 4

**Question Number : 615 Question Id : 48558437260 Question Type : MCQ Option Shuffling : No Is Question Mandatory : No Calculator : None Response Time : N.A Think Time : N.A Minimum Instruction Time : 0 Correct Marks : 5 Wrong Marks : 1**

**Question Key Details :**

Key	Value
Comprehension	MCQ

URL consists of

- A. Domain name
- B. Web page
- C. IP address
- D. Root path
- E. Web server

Choose the correct answer from the options given below:

- 1. A, C, D only
- 2. B, C, D only
- 3. B, D, E only
- 4. A, D, E only

**Options :**

- 485584149037. 1
- 485584149038. 2
- 485584149039. 3
- 485584149040. 4

**Question Number : 615 Question Id : 48558437260 Question Type : MCQ Option Shuffling : No Is Question Mandatory : No Calculator : None Response Time : N.A Think Time : N.A Minimum Instruction Time : 0 Correct Marks : 5 Wrong Marks : 1**

**Question Key Details :**

Key	Value
Comprehension	MCQ

यू आर एल बना होता है :

- A. डोमेन नाम
- B. वेब पेज
- C. आई पी पता
- D. रूट पथ
- E. वेब सर्वर

निम्नलिखित विकल्पों में सही उत्तर का चयन कीजिए :

1. केवल A, C, D
2. केवल B, C, D
3. केवल B, D, E
4. केवल A, D, E

**Options :**

- 485584149037. 1
- 485584149038. 2
- 485584149039. 3
- 485584149040. 4

**Question Number : 616 Question Id : 48558437261 Question Type : MCQ Option Shuffling : No Is Question Mandatory : No Calculator : None Response Time : N.A Think Time : N.A Minimum Instruction Time : 0**

**Correct Marks : 5 Wrong Marks : 1**

**Question Key Details :**

Key	Value
Comprehension	MCQ

Who was the first controller/Director General of All India Radio?

1. Ceylon Lenon
2. Orson Welles
3. Lionel Fielden
4. Simon Weil

**Options :**

- 485584149041. 1
- 485584149042. 2
- 485584149043. 3
- 485584149044. 4

**Question Number : 616 Question Id : 48558437261 Question Type : MCQ Option Shuffling : No Is Question Mandatory : No Calculator : None Response Time : N.A Think Time : N.A Minimum Instruction Time : 0**

**Correct Marks : 5 Wrong Marks : 1**

**Question Key Details :**

Key	Value
Comprehension	MCQ

ऑल इंडिया रेडियो के प्रथम नियंत्रक/महानिदेशक कौन थे ?

1. सीलोन
2. ऑरसन वेल्स
3. लियोनेल फील्डन
4. साइमन वील

Options :

485584149041. 1  
485584149042. 2  
485584149043. 3  
485584149044. 4

Question Number : 617 Question Id : 48558437262 Question Type : MCQ Option Shuffling : No Is Question Mandatory : No Calculator : None  
Response Time : N.A Think Time : N.A Minimum Instruction Time : 0

Correct Marks : 5 Wrong Marks : 1

Question Key Details :

Key	Value
Comprehension	MCQ

Match List I with List II

LIST I		LIST II	
Type of Media		Media	
A	Television	I	Outdoor
B	Nautanki	II	Electronic
C	Bill board	III	Traditional
D	Magazine	IV	Print

Choose the correct answer from the options given below:

1. A-I, B-II, C-III, D-IV
2. A-II, B-III, C-IV, D-I
3. A-II, B-III, C-II, D-IV
4. A-I, B-III, C-II, D-IV

Options :

485584149045. 1  
485584149046. 2  
485584149047. 3  
485584149048. 4

Question Number : 617 Question Id : 48558437262 Question Type : MCQ Option Shuffling : No Is Question Mandatory : No Calculator : None  
Response Time : N.A Think Time : N.A Minimum Instruction Time : 0

Correct Marks : 5 Wrong Marks : 1

Question Key Details :

Key	Value
Comprehension	MCQ

सूची I का सूची II से मिलान कीजिए

सूची I	सूची II
मीडिया का प्रकार	मीडिया
A. टेलीविजन	I. आउटडोर
B. नीटकी	II. इलेक्ट्रॉनिक
C. बिल बोर्ड	III. परंपरागत
D. सिग्वीन	IV. प्रिन्ट

निम्नलिखित विकल्पों में से सही उत्तर का चयन कीजिए :

1. A-I, B-II, C-III, D-IV
2. A-II, B-III, C-IV, D-I
3. A-II, B-III, C-II, D-IV
4. A-I, B-III, C-II, D-IV

Options :

485584149045. 1  
485584149046. 2  
485584149047. 3  
485584149048. 4

Question Number : 618 Question Id : 48558437263 Question Type : MCQ Option Shuffling : No Is Question Mandatory : No Calculator : None  
Response Time : N.A Think Time : N.A Minimum Instruction Time : 0

Correct Marks : 5 Wrong Marks : 1

Question Key Details :

Key	Value
Comprehension	MCQ

Match List I with List II

LIST I	LIST II
A. Lumiere Brothers	I. Raja Harishchandra
B. Dada Saheb Phalke	II. Arrival of a train
C. Robert Flaherty	III. Night Mail
D. John Grierson	IV. Moma

Choose the correct answer from the options given below:

1. A-II, B-I, C-IV, D-III
2. A-II, B-I, C-III, D-IV
3. A-II, B-III, C-I, D-IV
4. A-II, B-III, C-IV, D-I

Options :

485584149049. 1  
485584149050. 2  
485584149051. 3  
485584149052. 4

Question Number : 618 Question Id : 48558437263 Question Type : MCQ Option Shuffling : No Is Question Mandatory : No Calculator : None  
Response Time : N.A Think Time : N.A Minimum Instruction Time : 0

Correct Marks : 5 Wrong Marks : 1

Question Key Details :

Key	Value
Comprehension	MCQ

सूची I का सूची II से मिलान कीजिए

सूची I	सूची II
A. लुमियर ब्रदर्स	I. राजा हरिश्चंद्र
B. दादा साहब फाल्के	II. जराइवला ऑफ ए ट्रेन
C. राबर्ट फ्लॉथी	III. नाइट मेल
D. जॉन थ्रिपसन	IV. मोएना

निम्नलिखित विकल्पों में से सही उत्तर का चयन कीजिए :

1. A-II, B-I, C-IV, D-III
2. A-II, B-I, C-III, D-IV
3. A-II, B-III, C-I, D-IV
4. A-II, B-III, C-IV, D-I

**Options :**

485584149049. 1  
485584149050. 2  
485584149051. 3  
485584149052. 4

**Question Number : 619 Question Id : 48558437264 Question Type : MCQ Option Shuffling : No Is Question Mandatory : No Calculator : None Response Time : N.A Think Time : N.A Minimum Instruction Time : 0**

**Correct Marks : 5 Wrong Marks : 1**

**Question Key Details :**

Key	Value
Comprehension	MCQ

Which among the following is a video editing software?

1. Power Point
2. Window Media Player
3. Photo Editor
4. Final Cut Pro

**Options :**

485584149053. 1  
485584149054. 2  
485584149055. 3  
485584149056. 4

**Question Number : 619 Question Id : 48558437264 Question Type : MCQ Option Shuffling : No Is Question Mandatory : No Calculator : None Response Time : N.A Think Time : N.A Minimum Instruction Time : 0**

**Correct Marks : 5 Wrong Marks : 1**

**Question Key Details :**

Key	Value
Comprehension	MCQ

निम्न में से कौन सा विडियो एडिटिंग सॉफ्टवेयर है ?

1. पावर पॉइंट
2. विण्डो मीडिया प्लेयर
3. फोटो एडिटर
4. फाइनल कट प्रो

**Options :**

485584149053. 1  
485584149054. 2  
485584149055. 3  
485584149056. 4

**Question Number : 620 Question Id : 48558437265 Question Type : MCQ Option Shuffling : No Is Question Mandatory : No Calculator : None Response Time : N.A Think Time : N.A Minimum Instruction Time : 0**

**Correct Marks : 5 Wrong Marks : 1**

**Question Key Details :**

Key	Value
Comprehension	MCQ

Match List I with List II

LIST I		LIST II	
Abbreviations		Function	
A.	HTTP	I.	Photographic image
B.	JPEG	II.	bitmap image
C.	GIF	III.	Application Layer Protocol
D.	HTML	IV.	Hypertext Markup Language

Choose the correct answer from the options given below:

1. A-IV, B-I, C-III, D-I
2. A-III, B-I, C-II, D-IV
3. A-I, B-I, C-II, D-IV
4. A-III, B-II, C-IV, D-I

**Options :**

485584149057. 1  
485584149058. 2  
485584149059. 3  
485584149060. 4

**Question Number : 620 Question Id : 48558437265 Question Type : MCQ Option Shuffling : No Is Question Mandatory : No Calculator : None Response Time : N.A Think Time : N.A Minimum Instruction Time : 0**

**Correct Marks : 5 Wrong Marks : 1**

**Question Key Details :**

Key	Value
Comprehension	MCQ

सूची I का सूची II से मिलान कीजिए

सूची I संक्षिप्त रूप	सूची II कार्य
A. एच टी तीत पी	I. फोटोग्राफिक इमेज
B. जि पी इ जी	II. बिटमैप इमेज
C. जी आई एफ	III. एप्लीकेशन लेयर प्रोटोकॉल
D. एच टी एम एल	IV. हाइपरटेक्स्ट मार्कअप लैंग्वेज

निम्नलिखित विकल्पों में से सही उत्तर का चयन कीजिए :

1. A-IV, B-I, C-III, D-I
2. A-III, B-I, C-II, D-IV
3. A-I, B-I, C-II, D-IV
4. A-III, B-II, C-IV, D-I

**Options :**

485584149057. 1  
485584149058. 2  
485584149059. 3  
485584149060. 4

Question Number : 621 Question Id : 48558437266 Question Type : MCQ Option Shuffling : No Is Question Mandatory : No Calculator : None Response Time : N.A Think Time : N.A Minimum Instruction Time : 0

Correct Marks : 5 Wrong Marks : 1

Question Key Details :

Key	Value
Comprehension	MCQ

The inability to communicate using a language is called

1. Mechanical Barrier
2. Linguistic Barrier
3. Social Barrier
4. Physical Barrier

**Options :**

485584149061. 1  
485584149062. 2  
485584149063. 3  
485584149064. 4

Question Number : 621 Question Id : 48558437266 Question Type : MCQ Option Shuffling : No Is Question Mandatory : No Calculator : None Response Time : N.A Think Time : N.A Minimum Instruction Time : 0

Correct Marks : 5 Wrong Marks : 1

Question Key Details :

Key	Value
Comprehension	MCQ

एक भाषा के द्वारा संप्रेषण की अक्षमता कहलाती है :-

1. यांत्रिक बाधा
2. भाषायी बाधा
3. सामाजिक बाधा
4. शारीरिक बाधा

**Options :**

485584149061. 1  
485584149062. 2  
485584149063. 3  
485584149064. 4

**Question Number : 622 Question Id : 48558437267 Question Type : MCQ Option Shuffling : No Is Question Mandatory : No Calculator : None Response Time : N.A Think Time : N.A Minimum Instruction Time : 0**

**Correct Marks : 5 Wrong Marks : 1**

**Question Key Details :**

Key	Value
Comprehension	MCQ

Match List I with List II

LIST I	LIST II
Editing transitions	Function
A. Cut	I. Shot on screen slowly disappears and another shot begins to emerge simultaneously
B. Fade out	II. Instant stop in a running film
C. Dissolve	III. Straight and an instant change in visual
D. Freeze	IV. Shot begins to go dark and then finally screen becomes completely dark

Choose the correct answer from the options given below:

1. A-III, B-IV, C-II, D-I
2. A-II, B-IV, C-I, D-III
3. A-I, B-III, C-II, D-IV
4. A-III, B-IV, C-I, D-II

**Options :**

485584149065. 1  
485584149066. 2  
485584149067. 3  
485584149068. 4

**Question Number : 622 Question Id : 48558437267 Question Type : MCQ Option Shuffling : No Is Question Mandatory : No Calculator : None Response Time : N.A Think Time : N.A Minimum Instruction Time : 0**

**Correct Marks : 5 Wrong Marks : 1**

**Question Key Details :**

Key	Value
Comprehension	MCQ



सूची I का सूची II से मिलान कीजिए

सूची I	सूची II
A. कट	I. स्क्रीन पर शॉट धीरे-धीरे गायब हो जाता है और साथ ही साथ दूसरा शॉट उभरना शुरू हो जाता है
B. फेड आउट	II. चलती फिल्म में अचानक अवरोध
C. रिसॉल्व	III. चित्रों में सीधा और एकदम बदलाव
D. फ्रीज़	IV. शॉट अधिकापम होना शुरू होता है और अंततः स्क्रीन पूरी कांती हो जाती है

निम्नलिखित विकल्पों में से सही उत्तर का चयन कीजिए :

1. A-III, B-IV, C-II, D-I
2. A-II, B-IV, C-I, D-III
3. A-I, B-III, C-II, D-IV
4. A-III, B-IV, C-I, D-II

**Options :**

485584149065. 1  
485584149066. 2  
485584149067. 3  
485584149068. 4

**Question Number :** 623 **Question Id :** 48558437268 **Question Type :** MCQ **Option Shuffling :** No **Is Question Mandatory :** No **Calculator :** None  
**Response Time :** N.A **Think Time :** N.A **Minimum Instruction Time :** 0  
**Correct Marks :** 5 **Wrong Marks :** 1

**Question Key Details :**

Key	Value
Comprehension	MCQ

The type of reporting based on sensational context is known as

1. Green Journalism
2. Red Journalism
3. Yellow Journalism
4. Blue Journalism

**Options :**

485584149069. 1  
485584149070. 2  
485584149071. 3  
485584149072. 4

**Question Number :** 623 **Question Id :** 48558437268 **Question Type :** MCQ **Option Shuffling :** No **Is Question Mandatory :** No **Calculator :** None  
**Response Time :** N.A **Think Time :** N.A **Minimum Instruction Time :** 0

**Correct Marks :** 5 **Wrong Marks :** 1

**Question Key Details :**

Key	Value
Comprehension	MCQ

संवेदनात्मक परिप्रेक्ष्य पर आधारित रिपोर्टिंग के प्रकार को जाना जाता है :

1. हरी पत्रकारिता
2. लाल पत्रकारिता
3. पीली पत्रकारिता
4. नीली पत्रकारिता

**Options :**

485584149069. 1  
485584149070. 2  
485584149071. 3  
485584149072. 4

**Question Number : 624 Question Id : 48558437269 Question Type : MCQ Option Shuffling : No Is Question Mandatory : No Calculator : None Response Time : N.A Think Time : N.A Minimum Instruction Time : 0**

**Correct Marks : 5 Wrong Marks : 1**

**Question Key Details :**

Key	Value
Comprehension	MCQ

A technical term that refers to the range of focus is called \_\_\_\_\_

1. Depth of field
2. Depth of focus
3. Deep lens
4. Deep focus

**Options :**

485584149073. 1  
485584149074. 2  
485584149075. 3  
485584149076. 4

**Question Number : 624 Question Id : 48558437269 Question Type : MCQ Option Shuffling : No Is Question Mandatory : No Calculator : None Response Time : N.A Think Time : N.A Minimum Instruction Time : 0**

**Correct Marks : 5 Wrong Marks : 1**

**Question Key Details :**

Key	Value
Comprehension	MCQ

ध्यान की सीमा के संबंध में तकनीकी प्रत्यय कहा जाता है :

1. क्षेत्र की गहराई
2. ध्यान की गहराई
3. डीप लेंस
4. डीप फोकस

**Options :**

485584149073. 1  
485584149074. 2  
485584149075. 3  
485584149076. 4

Question Number : 625 Question Id : 48558437270 Question Type : MCQ Option Shuffling : No Is Question Mandatory : No Calculator : None  
Response Time : N.A Think Time : N.A Minimum Instruction Time : 0

Correct Marks : 5 Wrong Marks : 1

Question Key Details :

Key	Value
Comprehension	MCQ

Which among the following is NOT a type of culture

1. Popular culture
2. Folk culture
3. Mass culture
4. Fair culture

Options :

485584149077. 1

485584149078. 2

485584149079. 3

485584149080. 4

Question Number : 625 Question Id : 48558437270 Question Type : MCQ Option Shuffling : No Is Question Mandatory : No Calculator : None  
Response Time : N.A Think Time : N.A Minimum Instruction Time : 0

Correct Marks : 5 Wrong Marks : 1

Question Key Details :

Key	Value
Comprehension	MCQ

निम्न में से कौन एक संस्कृति का प्रकार नहीं है

1. प्रसिद्ध संस्कृति
2. लोक संस्कृति
3. बृहत संस्कृति
4. निष्पक्ष संस्कृति

Options :

485584149077. 1

485584149078. 2

485584149079. 3

485584149080. 4

Sub-Section Number :

2

Sub-Section Id :

4855842824

Question Shuffling Allowed :

No

Is Section Default? :

null

Question Number : 626 Question Id : 48558437271 Question Type : MCQ Option Shuffling : No Is Question Mandatory : No Calculator : None  
Response Time : N.A Think Time : N.A Minimum Instruction Time : 0

Correct Marks : 5 Wrong Marks : 1

Question Key Details :

Key	Value
Comprehension	Comp1

If you ask children who their role model is, you will often hear an answer by invoking Spiderman or Batman or Superman or Krish. All these are in the superhero space and all these have a high degree of violence featured in the films. With the increased penetration of television more recently of video or computer games children in general and teenagers in particular are exposed to increasingly high doses of aggressive images and often told that violence is fun. The media is accused of showing violence as cool, glamorous, easy or justified, thus inspire imitative behaviour.

Which of the following effect is used in post production to make violent scenes impressive?

1. Low camera angle
2. Slow motion
3. Action stunts
4. Gun shots

**Options :**

485584149081. 1

485584149082. 2

485584149083. 3

485584149084. 4

**Question Number : 626 Question Id : 48558437271 Question Type : MCQ Option Shuffling : No Is Question Mandatory : No Calculator : None Response Time : N.A Think Time : N.A Minimum Instruction Time : 0**

**Correct Marks : 5 Wrong Marks : 1**

**Question Key Details :**

Key	Value
Comprehension	Comp1

नीचे दिये गये गद्यांश के आधार पर प्रश्नों के उत्तर दीजिए

यदि तुम बच्चों से पूछो कि उनका प्रेरणास्रोत कौन है, आप अक्सर स्पाइडरमैन या बैटमैन या क्रिस का आह्वान करके उत्तर सुनेंगे। ये सभी सुपर हीरो स्पेस में हैं और इन सभी में फिल्मों में उच्च स्तर की हिंसा दिखाई गई। टेलीविजन की बढ़ती पहुँच के साथ हाल ही में वीडियो या कंप्यूटर गेम के कारण सामान्य रूप से बच्चे और विशेष रूप से किशोर आक्रामक छवियों की बढ़ती उच्च खुराक के संपर्क में हैं और अक्सर कहा जाता है कि हिंसा मजेदार है। मीडिया पर हिंसा को शांत, आकर्षक, आसान या न्यायसंगत दिखाने का आरोप है, इस प्रकार अनुकरणीय व्यवहार को प्रेरित करता है।

हिंसक दृश्यों के प्रभावशाली बनाने के लिए निम्नलिखित में से किस प्रभाव का उपयोग पोस्ट प्रोडक्शन में किया जाता है ?

1. कम कैमरा कोण (लो कैमरा एंगल)
2. स्लो मोशन
3. एक्शन स्टैंट
4. गन शॉट

**Options :**

485584149081. 1

485584149082. 2

485584149083. 3

485584149084. 4

**Question Number : 627 Question Id : 48558437272 Question Type : MCQ Option Shuffling : No Is Question Mandatory : No Calculator : None Response Time : N.A Think Time : N.A Minimum Instruction Time : 0**

**Correct Marks : 5 Wrong Marks : 1**

**Question Key Details :**

Key	Value
Comprehension	Comp1

If you ask children who their role model is, you will often hear an answer by invoking Spiderman or Batman or Superman or Krish. All these are in the superhero space and all these have a high degree of violence featured in the films. With the increased penetration of television more recently of video or computer games children in general and teenagers in particular are exposed to increasingly high doses of aggressive images and often told that violence is fun. The media is accused of showing violence as cool, glamorous, easy or justified, thus inspire imitative behaviour.

According to the passage children like Superheros because

1. they are larger than life
2. high degree of violence attract children
3. children have tendency to be violent
4. music in games and media is catchy

Options :

485584149085. 1  
 485584149086. 2  
 485584149087. 3  
 485584149088. 4

Question Number : 627 Question Id : 48558437272 Question Type : MCQ Option Shuffling : No Is Question Mandatory : No Calculator : None

Response Time : N.A Think Time : N.A Minimum Instruction Time : 0

Correct Marks : 5 Wrong Marks : 1

Question Key Details :

Key	Value
Comprehension	Comp1

नीचे दिये गये गद्यांश के आधार पर प्रश्नों के उत्तर दीजिए

यदि तुम बच्चों से पूछो कि उनका प्रेरणास्रोत कौन है, आप अक्सर स्पाइडरमैन या बैटमैन या क्रिस का आह्वान करके उत्तर सुनेंगे। ये सभी सुपर हीरो स्पेस में हैं और इन सभी में फिल्मों में उच्च स्तर की हिंसा दिखाई गई। टेलीविजन की बढ़ती पहुँच के साथ हाल ही में वीडियो या कंप्यूटर गेम के कारण सामान्य रूप से बच्चे और विशेष रूप से किशोर आक्रामक छवियों की बढ़ती उच्च खुराक के संपर्क में हैं और अक्सर कहा जाता है कि हिंसा मजेदार है। मीडिया पर हिंसा को शांत, आकर्षक, आसान या न्यायसंगत दिखाने का आरोप है, इस प्रकार अनुकरणीय व्यवहार को प्रेरित करता है।

गद्यांश के अनुसार बच्चे सुपरहीरो को पसंद करते हैं क्योंकि

1. वे जीवन से बड़े होते हैं
2. उच्च स्तरीय हिंसा बच्चों को आकर्षित करती है
3. बच्चों में हिंसा की प्रवृत्ति होती है
4. खेल और मीडिया में आकर्षक संगीत होता है

Options :

485584149085. 1  
 485584149086. 2  
 485584149087. 3  
 485584149088. 4

Question Number : 628 Question Id : 48558437273 Question Type : MCQ Option Shuffling : No Is Question Mandatory : No Calculator : None  
 Response Time : N.A Think Time : N.A Minimum Instruction Time : 0

Correct Marks : 5 Wrong Marks : 1

Question Key Details :

Key	Value
Comprehension	Comp1

If you ask children who their role model is, you will often hear an answer by invoking Spiderman or Batman or Superman or Krish. All these are in the superhero space and all these have a high degree of violence featured in the films. With the increased penetration of television more recently of video or computer games children in general and teenagers in particular are exposed to increasingly high doses of aggressive images and often told that violence is fun. The media is accused of showing violence as cool, glamorous, easy or justified, thus inspire imitative behaviour.

Where the camera is placed to show the perpetrator?

1. High camera angle
2. Low camera angle
3. Eye level camera angle
4. Bird view camera angle

Options :

485584149089. 1  
485584149090. 2  
485584149091. 3  
485584149092. 4

Question Number : 628 Question Id : 48558437273 Question Type : MCQ Option Shuffling : No Is Question Mandatory : No Calculator : None  
Response Time : N.A Think Time : N.A Minimum Instruction Time : 0

Correct Marks : 5 Wrong Marks : 1

Question Key Details :

Key	Value
Comprehension	Comp1

नीचे दिये गये गद्यांश के आधार पर प्रश्नों के उत्तर दीजिए

यदि तुम बच्चों से पूछो कि उनका प्रेरणास्रोत कौन है, आप अक्सर स्पाइडरमैन या बैटमैन या क्रिस का आह्वान करके उत्तर सुनेंगे। ये सभी सुपर हीरो स्पेस में हैं और इन सभी में फिल्मों में उच्च स्तर की हिंसा दिखाई गई। टेलीविजन की बढ़ती पहुँच के साथ हाल ही में वीडियो या कंप्यूटर गेम के कारण सामान्य रूप से बच्चे और विशेष रूप से किशोर आक्रामक छवियों की बढ़ती उच्च खुराक के संपर्क में हैं और अक्सर कहा जाता है कि हिंसा मजेदार है। मीडिया पर हिंसा को शांत, आकर्षक, आसान या न्यायसंगत दिखने का आरोप है, इस प्रकार अनुकरणीय व्यवहार को प्रेरित करता है।

अपराधी को दिखने के लिए कैमरे को कहाँ लगाया जाता है

1. हे कैमरा एंगल
2. लो कैमरा एंगल
3. आई लेवल कैमरा एंगल
4. बर्ड व्यू कैमरा एंगल

Options :

485584149089. 1  
485584149090. 2  
485584149091. 3  
485584149092. 4

Question Number : 629 Question Id : 48558437274 Question Type : MCQ Option Shuffling : No Is Question Mandatory : No Calculator : None Response Time : N.A Think Time : N.A Minimum Instruction Time : 0

Correct Marks : 5 Wrong Marks : 1

Question Key Details :

Key	Value
Comprehension	Comp1

If you ask children who their role model is, you will often hear an answer by invoking Spiderman or Batman or Superman or Krish. All these are in the superhero space and all these have a high degree of violence featured in the films. With the increased penetration of television more recently of video or computer games children in general and teenagers in particular are exposed to increasingly high doses of aggressive images and often told that violence is fun. The media is accused of showing violence as cool, glamorous, easy or justified, thus inspire imitative behaviour.

Which is NOT the impact of violence shown in media?

1. Exposure to high degree of aggressive images
2. Desensitize towards violence
3. Violence is considered as entertained
4. Violence should be curbed

Options :

485584149093. 1

485584149094. 2

485584149095. 3

485584149096. 4

Question Number : 629 Question Id : 48558437274 Question Type : MCQ Option Shuffling : No Is Question Mandatory : No Calculator : None Response Time : N.A Think Time : N.A Minimum Instruction Time : 0

Correct Marks : 5 Wrong Marks : 1

Question Key Details :

Key	Value
Comprehension	Comp1

नीचे दिये गये गद्यांश के आधार पर प्रश्नों के उत्तर दीजिए

यदि तुम बच्चों से पूछो कि उनका प्रेरणास्रोत कौन है, आप अक्सर स्पाइडरमैन या बैटमैन या क्रिस का आह्वान करके उत्तर सुनेंगे। ये सभी सुपर हीरो स्पेस में हैं और इन सभी में फिल्मों में उच्च स्तर की हिंसा दिखाई गई। टेलीविजन की बढ़ती पहुँच के साथ हाल ही में वीडियो या कंप्यूटर गेम के कारण सामान्य रूप से बच्चे और विशेष रूप से किशोर आक्रामक छवियों की बढ़ती उच्च खुराक के संपर्क में हैं और अक्सर कहा जाता है कि हिंसा मजेदार है। मीडिया पर हिंसा को शांत, आकर्षक, आसान या न्यायसंगत दिखाने का आरोप है, इस प्रकार अनुकरणीय व्यवहार को प्रेरित करता है।

मीडिया में कौन सा हिंसा का प्रभाव नहीं है ?

1. उच्च स्तरीय आक्रामक छवियों का अनावरण
2. हिंसा के प्रति असंवेदनशील बनाना
3. हिंसा के मनोरंजक मानना
4. हिंसा के रोकना चाहिए

Options :

485584149093. 1

485584149094. 2

485584149095. 3

**Question Number : 630 Question Id : 48558437275 Question Type : MCQ Option Shuffling : No Is Question Mandatory : No Calculator : None**  
**Response Time : N.A Think Time : N.A Minimum Instruction Time : 0**  
**Correct Marks : 5 Wrong Marks : 1**  
**Question Key Details :**

Key	Value
Comprehension	Comp1

If you ask children who their role model is, you will often hear an answer by invoking Spiderman or Batman or Superman or Krish. All these are in the superhero space and all these have a high degree of violence featured in the films. With the increased penetration of television more recently of video or computer games children in general and teenagers in particular are exposed to increasingly high doses of aggressive images and often told that violence is fun. The media is accused of showing violence as cool, glamorous, easy or justified, thus inspire imitative behaviour.

Which statement summarises the passage?

1. Violence and crime is on the rise amongst the youth
2. Issues and concerns the representation of violence in the media arise from not from what is represented but how it is represented
3. Several key technical codes which very powerfully affect the way violence is represented in the media
4. Music, Camera, effects and editing can enhance violence experience

**Options :**

485584149097. 1  
 485584149098. 2  
 485584149099. 3  
 485584149100. 4

**Question Number : 630 Question Id : 48558437275 Question Type : MCQ Option Shuffling : No Is Question Mandatory : No Calculator : None**  
**Response Time : N.A Think Time : N.A Minimum Instruction Time : 0**  
**Correct Marks : 5 Wrong Marks : 1**  
**Question Key Details :**

Key	Value
Comprehension	Comp1

नीचे दिये गये गद्यांश के आधार पर प्रश्नों के उत्तर दीजिए

यदि तुम बच्चों से पूछो कि उनका प्रेरणास्रोत कौन है, आप अक्सर स्पाइडरमैन या बैटमैन या क्रिस का आह्वान करके उत्तर सुनेंगे। ये सभी सुपर हीरो स्पेस में हैं और इन सभी में फिल्मों में उच्च स्तर की हिंसा दिखाई गई। टेलीविजन की बढ़ती पहुँच के साथ हाल ही में वीडियो या कंप्यूटर गेम के कारण सामान्य रूप से बच्चे और विशेष रूप से किशोर आक्रामक छवियों की बढ़ती उच्च खुराक के संपर्क में हैं और अक्सर कहा जाता है कि हिंसा मजेदार है। मीडिया पर हिंसा को शांत, आकर्षक, आसान या न्यायसंगत दिखाने का आरोप है, इस प्रकार अनुकरणीय व्यवहार को प्रेरित करता है।



कौन सा कथन गद्यांश का सारांश प्रस्तुत करता है ?

1. युवाओं में हिंसा और अपराध उभार पर है
2. मुद्दे और मीडिया में हिंसा के प्रतिनिधित्व से संबंधित प्रतिनिधित्व से उत्पन्न नहीं होता है अपितु इसका प्रतिनिधित्व कैसे किया जाता है
3. कई प्रमुख तकनीक कोड जो मीडिया में हिंसा का प्रतिनिधित्व करने के तरीके को बहुर शक्तिशाली रूप से प्रभावित करते हैं
4. संगीत, कैमरा, प्रभाव और सम्पादन अनुभव को बढ़ा सकते हैं

**Options :**

485584149097. 1  
485584149098. 2  
485584149099. 3  
485584149100. 4

**Sub-Section Number :**

3

**Sub-Section Id :**

4855842825

**Question Shuffling Allowed :**

No

**Is Section Default? :**

null

**Question Number : 631 Question Id : 48558437276 Question Type : MCQ Option Shuffling : No Is Question Mandatory : No Calculator : None Response Time : N.A Think Time : N.A Minimum Instruction Time : 0**

**Correct Marks : 5 Wrong Marks : 1**

**Question Key Details :**

Key	Value
Comprehension	Comp2

The Research and Development section of an organization creates a product. The section defines its form, specification, conditions, look, appearance, package-in case of a physical product. They would also give the USP the unique selling point. Sometimes market testing of products to done. Sometimes responses are analyzed by psychologists and sociologists to come to conclusions about the most likely to be successful choice of the look and packaging of the product. This is the first stage in defining the identity of the product. What is described above mostly applies to the consumer products, but sometimes service may also be advertised like a product of manufacturing industries. Market research would give a projection to the targeted buyer and audience in terms of its socio-economic profile. Advertising gives identity to the product. It uses audio-visual language. Advertisement is a comprehensively planned and appeal buyers by launched effort. Defining one's own market is an elaborate activity. It is based on a lot research. Buyers economics, social and psychological profile is defined. Consumer's reasons for purchasing products and services can be varied and complex. It could be fascination or identification with the brand or a loyalty with an existing one, it could be the cost or a belief induced by peer pressure. The consumer of the product is divided into smaller target market segments on the basis of geographic, demographic, psychographic and behaviouristic characteristics.

Who decides the USP of the products?

1. Advertising company
2. Research and Development
3. Psychologist
4. Sociologist

**Options :**

485584149101. 1  
485584149102. 2  
485584149103. 3  
485584149104. 4

Question Number : 631 Question Id : 48558437276 Question Type : MCQ Option Shuffling : No Is Question Mandatory : No Calculator : None Response Time : N.A Think Time : N.A Minimum Instruction Time : 0

Correct Marks : 5 Wrong Marks : 1

Question Key Details :

Key	Value
Comprehension	Comp2

नीचे दिये गये गद्यांश के आधार पर प्रश्नों के उत्तर दीजिए

किसी संगठन का अनुसंधान और विकास अनुभाग एक उत्पाद बनाता है। भौतिक उत्पाद के मामले में अनुभाग इसके रूप, विनिर्देश, शर्तों, रूप, पैकेज को परिभाषित करता है। वे यूएसपी को अद्वितीय विक्रय बिन्दु भी देंगे। कभी-कभी उत्पादकों का बाजार परीक्षण किया जाता है। कभी-कभी मनोवैज्ञानिकों व समाजशास्त्रियों द्वारा उत्पाद की दिखावट और पैकेजिंग की सर्वाधिक उफयुक्त सफल चयन के बारे में नतीजे पर पहुंचने के लिए अनुक्रियाओं का विश्लेषण किया जाता है।

यह उत्पाद की पहचान का परिभाषित करने में प्रथम चरण है। ऊपर जो कुछ वर्णन किया गया है वह अधिकतर उपभोक्ता उत्पादों पर लागू होता है परन्तु कभी-कभी सेवा को भी विनिर्माण उद्योग के उत्पाद की तरह विशिष्ट किया जा सकता है। बाजार शोध लक्षित क्रेता व श्रोता को इसके सामाजिक आर्थिक प्रोफाइल के संदर्भ में प्रक्षेप देगा। विज्ञापन उत्पाद को पहचान देता है। यह दृश्य श्रव्य भाषा का प्रयोग करता है। विज्ञापन विस्तृत रूप से नियोजित होते हैं और अपने प्रयास से क्रेताओं को अपील करते हैं। अपने स्वयं के बाजार को परिभाषित करना एक विस्तृत गतिविधि होती है।

उत्पाद की यू एस पी कौन निर्धारित करता है ?

1. विज्ञापन कंपनी
2. अनुसंधान और विकास
3. मनोवैज्ञानिक
4. समाजशास्त्री

Options :

485584149101. 1

485584149102. 2

485584149103. 3

485584149104. 4

Question Number : 632 Question Id : 48558437277 Question Type : MCQ Option Shuffling : No Is Question Mandatory : No Calculator : None Response Time : N.A Think Time : N.A Minimum Instruction Time : 0

Correct Marks : 5 Wrong Marks : 1

Question Key Details :

Key	Value
Comprehension	Comp2

The Research and Development section of an organization creates a product. The section defines its form, specification, conditions, look, appearance, package-in case of a physical product. They would also give the USP the unique selling point. Sometimes market testing of products is done. Sometimes responses are analyzed by psychologists and sociologists to come to conclusions about the most likely to be successful choice of the look and packaging of the product. This is the first stage in defining the identity of the product. What is described above mostly applies to the consumer products, but sometimes service may also be advertised like a product of manufacturing industries. Market research would give a projection to the targeted buyer and audience in terms of its socio-economic profile. Advertising gives identity to the product. It uses audio-visual language. Advertisement is a comprehensively planned and appeal buyers by launched effort. Defining one's own market is an elaborate activity. It is based on a lot research. Buyer's economics, social and psychological profile is defined. Consumer's reasons for purchasing products and services can be varied and complex. It could be fascination or identification with the brand or a loyalty with an existing one, it could be the cost or a belief induced by peer pressure. The consumer of the product is divided into smaller target market segments on the basis of geographic, demographic, psychographic and behaviouristic characteristics.

What is required to understand the positioning of the product to appeal the targeted buyers

1. Advertisement
2. Product specification
3. Market research
4. Comprehensive planning

Options :

485584149105. 1  
485584149106. 2  
485584149107. 3  
485584149108. 4

Question Number : 632 Question Id : 48558437277 Question Type : MCQ Option Shuffling : No Is Question Mandatory : No Calculator : None  
Response Time : N.A Think Time : N.A Minimum Instruction Time : 0

Correct Marks : 5 Wrong Marks : 1

Question Key Details :

Key	Value
Comprehension	Comp2

नीचे दिये गये गद्यांश के आधार पर प्रश्नों के उत्तर दीजिए

किसी संगठन का अनुसंधान और विकास अनुभाग एक उत्पाद बनाता है। भौतिक उत्पाद के मामले में अनुभाग इसके रूप, विनिर्देश, शर्तों, रूप, पैकेज को परिभाषित करता है। वे यूएसपी को अद्वितीय विकल्प बिन्दु भी देंगे। कभी-कभी उत्पादकों का बाजार परीक्षण किया जाता है। कभी-कभी मनोवैज्ञानिकों व समाजशास्त्रियों द्वारा उत्पाद की दिखावट और पैकेजिंग की सर्वाधिक उफयुक्त सफल चयन के बारे में नतीजे पर पहुंचने के लिए अनुक्रियाओं का विश्लेषण किया जाता है।

यह उत्पाद की पहचान का परिभाषित करने में प्रथम चरण है। ऊपर जो कुछ वर्णन किया गया है वह अधिकतर उपभोक्ता उत्पादों पर लागू होता है परन्तु कभी-कभी सेवा को भी विनिर्माण उद्योग के उत्पाद की तरह विशिष्ट किया जा सकता है। बाजार शोध लक्षित क्रेता व श्रोता को इसके सामाजिक आर्थिक प्रोफाइल के संदर्भ में प्रक्षेप देगा। विशिष्ट उत्पाद को पहचान देता है। यह दृश्य श्रव्य भाषा का प्रयोग करता है। विशिष्ट विस्तृत रूप से नियोजित होते हैं और अपने प्रयास से क्रेताओं को अपील करते हैं। अपने स्वयं के बाजार को परिभाषित करना एक विस्तृत गतिविधि होती है।

लक्षित खरीददारों को अपील करने के लिए उत्पाद की स्थिति को समझने के लिए क्या आवश्यक है ?

1. विशिष्ट
2. उत्पाद विनिर्देश
3. बाजार अनुसंधान
4. विस्तृत नियोजन

Options :

485584149105. 1  
485584149106. 2  
485584149107. 3  
485584149108. 4

Question Number : 633 Question Id : 48558437278 Question Type : MCQ Option Shuffling : No Is Question Mandatory : No Calculator : None  
Response Time : N.A Think Time : N.A Minimum Instruction Time : 0

Correct Marks : 5 Wrong Marks : 1

Question Key Details :

Key	Value
Comprehension	Comp2

The Research and Development section of an organization creates a product. The section defines its form, specification, conditions, look, appearance, package-in case of a physical product. They would also give the USP the unique selling point. Sometimes market testing of products is done. Sometimes responses are analyzed by psychologists and sociologists to come to conclusions about the most likely to be successful choice of the look and packaging of the product. This is the first stage in defining the identity of the product. What is described above mostly applies to the consumer products, but sometimes service may also be advertised like a product of manufacturing industries. Market research would give a projection to the targeted buyer and audience in terms of its socio-economic profile. Advertising gives identity to the product. It uses audio-visual language. Advertisement is a comprehensively planned and appeal buyers by launched effort. Defining one's own market is an elaborate activity. It is based on a lot research. Buyers economics, social and psychological profile is defined. Consumer's reasons for purchasing products and services can be varied and complex. It could be fascination or identification with the brand or a loyalty with an existing one, it could be the cost or a belief induced by peer pressure. The consumer of the product is divided into smaller target market segments on the basis of geographic, demographic, psychographic and behaviouristic characteristics.

Which amongst the following is NOT a reason for consumers to buy a product

1. Loyalty
2. Cost
3. Peer pressure
4. Transition

Options :

485584149109. 1  
 485584149110. 2  
 485584149111. 3  
 485584149112. 4

Question Number : 633 Question Id : 48558437278 Question Type : MCQ Option Shuffling : No Is Question Mandatory : No Calculator : None  
 Response Time : N.A Think Time : N.A Minimum Instruction Time : 0  
 Correct Marks : 5 Wrong Marks : 1  
 Question Key Details :

Key	Value
Comprehension	Comp2

नीचे दिये गये गद्यांश के आधार पर प्रश्नों के उत्तर दीजिए

किसी संगठन का अनुसंधान और विकास अनुभाग एक उत्पाद बनाता है। भौतिक उत्पाद के मामले में अनुभाग इसके रूप, विनिर्देश, शर्तों, रूप, पैकेज को परिभाषित करता है। वे यूएसपी को अद्वितीय विक्रय बिन्दु भी देंगे। कभी-कभी उत्पादकों का बाजार परीक्षण किया जाता है। कभी-कभी मनोवैज्ञानिकों व समाजशास्त्रियों द्वारा उत्पाद की दिखावट और पैकेजिंग की सर्वाधिक उफयुक्त सफल चयन के बारे में नतीजे पर पहुंचने के लिए अनुक्रियाओं का विश्लेषण किया जाता है।

यह उत्पाद की पहचान का परिभाषित करने में प्रथम चरण है। ऊपर जो कुछ वर्णन किया गया है वह अधिकतर उपभोक्ता उत्पादों पर लागू होता है परन्तु कभी-कभी सेवा को भी विनिर्माण उद्योग के उत्पाद की तरह विज्ञापित किया जा सकता है। बाजार शोध लक्षित क्रेता व श्रोता को इसके सामाजिक आर्थिक प्रोफाइल के संदर्भ में प्रक्षेप देगा। विज्ञापन उत्पाद को पहचान देता है। यह दृश्य श्रव्य भाषा का प्रयोग करता है। विज्ञापन विस्तृत रूप से नियोजित होते हैं और अपने प्रयास से क्रेताओं को अपील करते हैं। अपने स्वयं के बाजार को परिभाषित करना एक विस्तृत गतिविधि होती है।

निम्नलिखित में से कौन स ग्राहक द्वारा किसी उत्पाद को खरीदने का एक कारण नहीं है

1. वफादारी
2. मूल्य
3. साथी का दबाव
4. संक्रमण

**Options :**

485584149109. 1  
485584149110. 2  
485584149111. 3  
485584149112. 4

**Question Number : 634 Question Id : 48558437279 Question Type : MCQ Option Shuffling : No Is Question Mandatory : No Calculator : None Response Time : N.A Think Time : N.A Minimum Instruction Time : 0 Correct Marks : 5 Wrong Marks : 1**

**Question Key Details :**

Key	Value
Comprehension	Comp2

The Research and Development section of an organization creates a product. The section defines its form, specification, conditions, look, appearance, package-in case of a physical product. They would also give the USP the unique selling point. Sometimes market testing of products to done. Sometimes responses are analyzed by psychologists and sociologists to come to conclusions about the most likely to be successful choice of the look and packaging of the product. This is the first stage in defining the identity of the product. What is described above mostly applies to the consumer products, but sometimes service may also be advertised like a product of manufacturing industries. Market research would give a projection to the targeted buyer and audience in terms of its socio-economic profile. Advertising gives identity to the product. It uses audio-visual language. Advertisement is a comprehensively planned and appeal buyers by launched effort. Defining one's own market is an elaborate activity. It is based on a lot research. Buyers economics, social and psychological profile is defined. Consumer's reasons for purchasing products and services can be varied and complex. It could be fascination or identification with the brand or a loyalty with an existing one, it could be the cost or a belief induced by peer pressure. The consumer of the product is divided into smaller target market segments on the basis of geographic, demographic, psychographic and behaviouristic characteristics.

Which is NOT a role of advertising

1. giving product an identity
2. promotion through audio visual language
3. audience appeal
4. distribution of the product

**Options :**

485584149113. 1  
485584149114. 2  
485584149115. 3  
485584149116. 4

**Question Number : 634 Question Id : 48558437279 Question Type : MCQ Option Shuffling : No Is Question Mandatory : No Calculator : None Response Time : N.A Think Time : N.A Minimum Instruction Time : 0 Correct Marks : 5 Wrong Marks : 1**

**Question Key Details :**

Key	Value
Comprehension	Comp2

नीचे दिये गये गद्यांश के आधार पर प्रश्नों के उत्तर दीजिए

किसी संगठन का अनुसंधान और विकास अनुभाग एक उत्पाद बनाता है। भौतिक उत्पाद के मामले में अनुभाग इसके रूप, विनिर्देश, शर्तों, रूप, पैकेज को परिभाषित करता है। वे यूएसपी को अद्वितीय विक्रय बिन्दु भी देंगे। कभी-कभी उत्पादकों का बाजार परीक्षण किया जाता है। कभी-कभी मनोवैज्ञानिकों व समाजशास्त्रियों द्वारा उत्पाद की दिखावट और पैकेजिंग की सर्वाधिक उफयुक्त सफल चयन के बारे में नतीजे पर पहुंचने के लिए अनुक्रियाओं का विश्लेषण किया जाता है।

यह उत्पाद की पहचान का परिभाषित करने में प्रथम चरण है। ऊपर जो कुछ वर्णन किया गया है वह अधिकतर उपभोक्ता उत्पादों पर लागू होता है परन्तु कभी-कभी सेवा को भी विनिर्माण उद्योग के उत्पाद की तरह विज्ञापित किया जा सकता है। बाजार शोध लक्षित क्रेता व श्रोता को इसके सामाजिक आर्थिक प्रोफाइल के संदर्भ में प्रक्षेप देगा। विज्ञापन उत्पाद को पहचान देता है। यह दृश्य श्रव्य भाषा का प्रयोग करता है। विज्ञापन विस्तृत रूप से नियोजित होते हैं और अपने प्रयास से क्रेताओं को अपील करते हैं। अपने स्वयं के बाजार को परिभाषित करना एक विस्तृत गतिविधि होती है।

कौन सी विज्ञापन की भूमिका नहीं है।

1. उत्पाद को एक पहचान देना
2. दृश्य श्रव्य भाषा द्वारा बढ़ावा देना
3. श्रोता की अपील
4. उत्पाद का वितरण

Options :

485584149113. 1

485584149114. 2

485584149115. 3

485584149116. 4

Question Number : 635 Question Id : 48558437280 Question Type : MCQ Option Shuffling : No Is Question Mandatory : No Calculator : None

Response Time : N.A Think Time : N.A Minimum Instruction Time : 0

Correct Marks : 5 Wrong Marks : 1

Question Key Details :

Key	Value
Comprehension	Comp2

The Research and Development section of an organization creates a product. The section defines its form, specification, conditions, look, appearance, package-in case of a physical product. They would also give the USP the unique selling point. Sometimes market testing of products to done. Sometimes responses are analyzed by psychologists and sociologists to come to conclusions about the most likely to be successful choice of the look and packaging of the product. This is the first stage in defining the identity of the product. What is described above mostly applies to the consumer products, but sometimes service may also be advertised like a product of manufacturing industries. Market research would give a projection to the targeted buyer and audience in terms of its socio-economic profile. Advertising gives identity to the product. It uses audio-visual language. Advertisement is a comprehensively planned and appeal buyers by launched effort. Defining one's own market is an elaborate activity. It is based on a lot research. Buyers economics, social and psychological profile is defined. Consumer's reasons for purchasing products and services can be varied and complex. It could be fascination or identification with the brand or a loyalty with an existing one, it could be the cost or a belief induced by peer pressure. The consumer of the product is divided into smaller target market segments on the basis of geographic, demographic, psychographic and behaviouristic characteristics.

What is NOT the profile of a buyer?

1. Psychological
2. Sociological
3. Behavioural
4. Peer pressure

Options :

485584149117. 1  
485584149118. 2  
485584149119. 3  
485584149120. 4

Question Number : 635 Question Id : 48558437280 Question Type : MCQ Option Shuffling : No Is Question Mandatory : No Calculator : None Response Time : N.A Think Time : N.A Minimum Instruction Time : 0

Correct Marks : 5 Wrong Marks : 1

Question Key Details :

Key	Value
Comprehension	Comp2

नीचे दिये गये गद्यांश के आधार पर प्रश्नों के उत्तर दीजिए

किसी संगठन का अनुसंधान और विकास अनुभाग एक उत्पाद बनाता है। भौतिक उत्पाद के मामले में अनुभाग इसके रूप, विनिर्देश, शर्तों, रूप, पैकेज को परिभाषित करता है। वे यूएसपी को अद्वितीय विकल्प बिन्दु भी देंगे। कभी-कभी उत्पादकों का बाजार परीक्षण किया जाता है। कभी-कभी मनोवैज्ञानिकों व समाजशास्त्रियों द्वारा उत्पाद की दिखावट और पैकेजिंग की सर्वाधिक उफयुक्त सफल चयन के बारे में नतीजे पर पहुंचने के लिए अनुक्रियाओं का विश्लेषण किया जाता है।

यह उत्पाद की पहचान का परिभाषित करने में प्रथम चरण है। ऊपर जो कुछ वर्णन किया गया है वह अधिकतर उपभोक्ता उत्पादों पर लागू होता है परन्तु कभी-कभी सेवा को भी विनिमय उद्योग के उत्पाद की तरह विशिष्ट किया जा सकता है। बाजार शोध लक्षित क्रेता व श्रोता को इसके सामाजिक आर्थिक प्रोफाइल के संदर्भ में प्रक्षेप देगा। विशिष्ट उत्पाद को पहचान देता है। यह दृश्य श्रव्य भाषा का प्रयोग करता है। विशिष्ट विस्तृत रूप से नियोजित होते हैं और अपने प्रयास से क्रेताओं को अपील करते हैं। अपने स्वयं के बाजार को परिभाषित करना एक विस्तृत गतिविधि होती है।

क्रेता की प्रोफाइल क्या नहीं है ?

1. मनोवैज्ञानिक
2. सामाजिक
3. व्यवहारिक
4. साथी का दबाव

Options :

485584149117. 1  
485584149118. 2  
485584149119. 3  
485584149120. 4

## Physics

Group Number :

13

Group Id :

485584862

Group Maximum Duration :

60

Group Minimum Duration :

60

Show Attended Group? :

No

Edit Attended Group? : No  
Break time : 0  
Group Marks : 200  
Is this Group for Examiner? : No  
Examiner permission : Cant View  
Show Progress Bar? : No

## Physics

Section Id : 485584992  
Section Number : 1  
Section type : Online  
Mandatory or Optional : Mandatory  
Number of Questions : 50  
Number of Questions to be attempted : 40  
Section Marks : 200  
Enable Mark as Answered Mark for Review and Clear Response : Yes  
Maximum Instruction Time : 0  
Sub-Section Number : 1  
Sub-Section Id : 4855842826  
Question Shuffling Allowed : Yes  
Is Section Default? : null

Question Number : 636 Question Id : 48558437331 Question Type : MCQ Option Shuffling : No Is Question Mandatory : No Calculator : None  
Response Time : N.A Think Time : N.A Minimum Instruction Time : 0

Correct Marks : 5 Wrong Marks : 1

Question Key Details :

Key	Value
Comprehension	MCQ

For only the coulomb force to be operative, the least distance between the two protons, out of the following will be:

1.  $10^{-12}$  m
2.  $10^{-15}$  m
3.  $10^{-10}$  m
4.  $10^{-8}$  m

Options :

485584149321. 1  
485584149322. 2  
485584149323. 3  
485584149324. 4

Question Number : 636 Question Id : 48558437331 Question Type : MCQ Option Shuffling : No Is Question Mandatory : No Calculator : None  
Response Time : N.A Think Time : N.A Minimum Instruction Time : 0

Correct Marks : 5 Wrong Marks : 1

Question Key Details :

Key	Value
Comprehension	MCQ



दो प्रोटोन के बीच केवल कूलाम्ब बल के क्रियावन के लिए न्यूनतम दूरी, निम्नलिखित में से क्या होगी.-

1.  $10^{-12}$  m

2.  $10^{-15}$  m

3.  $10^{-10}$  m

4.  $10^{-8}$  m

**Options :**

485584149321. 1

485584149322. 2

485584149323. 3

485584149324. 4

**Question Number : 637 Question Id : 48558437332 Question Type : MCQ Option Shuffling : No Is Question Mandatory : No Calculator : None Response Time : N.A Think Time : N.A Minimum Instruction Time : 0**

**Correct Marks : 5 Wrong Marks : 1**

**Question Key Details :**

Key	Value
Comprehension	MCQ

The magnitude of electric field due to an infinitely long straight uniformly charged wire having charge density  $\lambda$  and at a radial distance  $r$  is given by.

1.  $\frac{\lambda}{\epsilon_0 r}$

2.  $\frac{\lambda}{\epsilon_0}$

3.  $\frac{\lambda}{2\pi\epsilon_0 r}$

4.  $\frac{\lambda}{2\pi\epsilon_0}$

**Options :**

485584149325. 1

485584149326. 2

485584149327. 3

485584149328. 4

**Question Number : 637 Question Id : 48558437332 Question Type : MCQ Option Shuffling : No Is Question Mandatory : No Calculator : None Response Time : N.A Think Time : N.A Minimum Instruction Time : 0**

**Correct Marks : 5 Wrong Marks : 1**

**Question Key Details :**

Key	Value
Comprehension	MCQ

अनन्त लम्बाई के एक समान आवेशित सीधे तार, जिसका आवेशीय घनत्व  $\lambda$  है और जिसकी अरीय दूरी  $r$  है, के कारण विद्युत क्षेत्र का परिमाण \_\_\_\_\_ द्वारा दिया गया है।

1.  $\frac{\lambda}{\epsilon_0 r}$

2.  $\frac{\lambda}{\epsilon_0}$

3.  $\frac{\lambda}{2\pi\epsilon_0 r}$

4.  $\frac{\lambda}{2\pi\epsilon_0}$

Options :

- 485584149325. 1
- 485584149326. 2
- 485584149327. 3
- 485584149328. 4

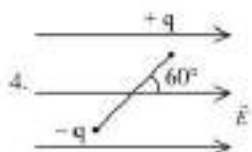
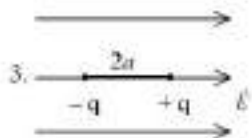

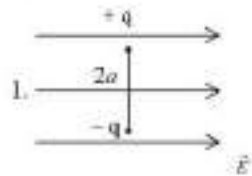
Question Number : 638 Question Id : 48558437333 Question Type : MCQ Option Shuffling : No Is Question Mandatory : No Calculator : None Response Time : N.A Think Time : N.A Minimum Instruction Time : 0

Correct Marks : 5 Wrong Marks : 1

Question Key Details :

Key	Value
Comprehension	MCQ

Different orientations of an electric dipole placed in a uniform electric field  $E$  are shown. In which orientation torque is half of its maximum value.



Options :

- 485584149329. 1
- 485584149330. 2
- 485584149331. 3
- 485584149332. 4

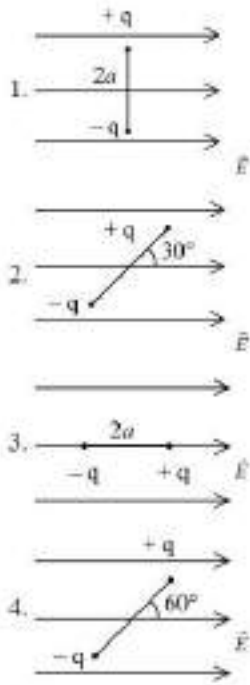
Question Number : 638 Question Id : 48558437333 Question Type : MCQ Option Shuffling : No Is Question Mandatory : No Calculator : None Response Time : N.A Think Time : N.A Minimum Instruction Time : 0

Correct Marks : 5 Wrong Marks : 1

Question Key Details :

Key	Value
Comprehension	MCQ

एक, एक-समान विद्युत् क्षेत्र में, विभिन्न अभिविन्यासों का एक विद्युत् द्विध्रुव चित्रानुसार अवस्थित है। किस अभिविन्यास में बल-आघूर्ण अपने अधिकतम मान का आधा होगा।



Options :

485584149329. 1

485584149330. 2

485584149331. 3

485584149332. 4

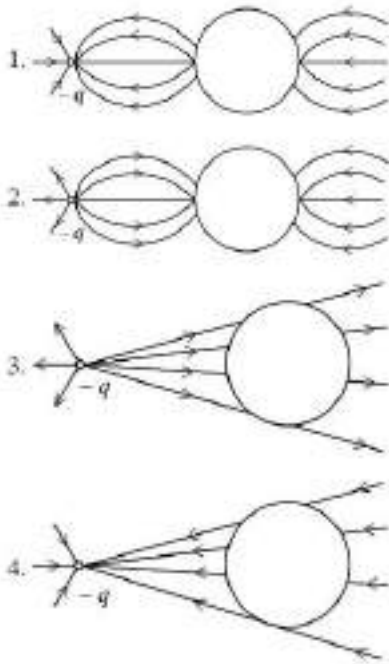
Question Number : 639 Question Id : 48558437334 Question Type : MCQ Option Shuffling : No Is Question Mandatory : No Calculator : None  
Response Time : N.A Think Time : N.A Minimum Instruction Time : 0

Correct Marks : 5 Wrong Marks : 1

Question Key Details :

Key	Value
Comprehension	MCQ

A point charge is brought near an isolated conducting sphere. The electric field lines are best given by:



Options :

- 485584149333. 1
- 485584149334. 2
- 485584149335. 3
- 485584149336. 4

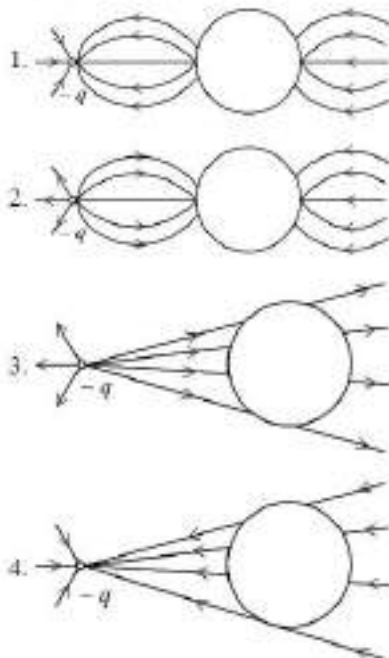
Question Number : 639 Question Id : 48558437334 Question Type : MCQ Option Shuffling : No Is Question Mandatory : No Calculator : None Response Time : N.A Think Time : N.A Minimum Instruction Time : 0

Correct Marks : 5 Wrong Marks : 1

Question Key Details :

Key	Value
Comprehension	MCQ

एक बिंदु आवेश को एक विद्युत् चालाकी गोले के समीप लाया जाता है। वैद्युत क्षेत्र रेखाएं सही रूप से दर्शाई गई हैं।



Options :

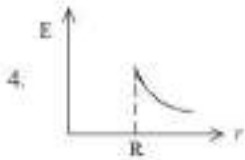
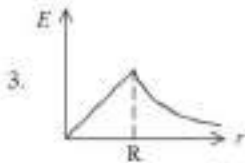
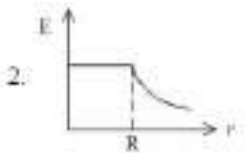
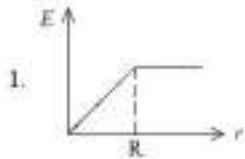
485584149333. 1  
485584149334. 2  
485584149335. 3  
485584149336. 4

Question Number : 640 Question Id : 48558437335 Question Type : MCQ Option Shuffling : No Is Question Mandatory : No Calculator : None  
Response Time : N.A Think Time : N.A Minimum Instruction Time : 0  
Correct Marks : 5 Wrong Marks : 1

Question Key Details :

Key	Value
Comprehension	MCQ

For a uniformly charged thin spherical shell of radius  $R$ , which of the following graph correctly shows the variation of electric field ( $\vec{E}$ ) with the distance ( $r$ ) from its center.



Options :

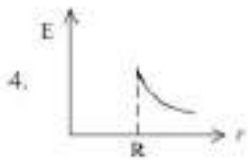
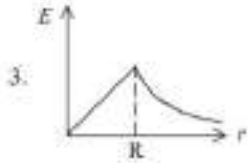
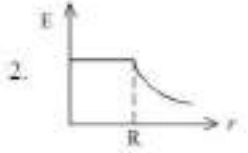
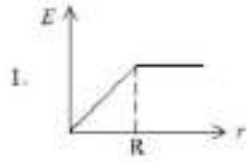
485584149337. 1  
485584149338. 2  
485584149339. 3  
485584149340. 4

Question Number : 640 Question Id : 48558437335 Question Type : MCQ Option Shuffling : No Is Question Mandatory : No Calculator : None  
Response Time : N.A Think Time : N.A Minimum Instruction Time : 0  
Correct Marks : 5 Wrong Marks : 1

Question Key Details :

Key	Value
Comprehension	MCQ

एक समान रूप से आवेशित  $R$  त्रिज्या वाले पतले गोलाकार खोल (spherical shell) के लिए आलेखों (ग्राफों) में से कौन-सा विद्युत् क्षेत्र ( $E$ ) का इसके केंद्र से दूरी ( $r$ ) के साथ परिवर्तन को सही रूप से दर्शाता है।



Options :

485584149337. 1

485584149338. 2

485584149339. 3

485584149340. 4

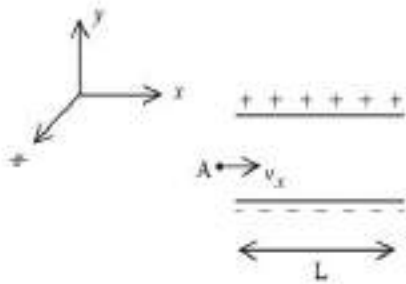
Question Number : 641 Question Id : 48558437336 Question Type : MCQ Option Shuffling : No Is Question Mandatory : No Calculator : None Response Time : N.A Think Time : N.A Minimum Instruction Time : 0

Correct Marks : 5 Wrong Marks : 1

Question Key Details :

Key	Value
Comprehension	MCQ

A particle A of mass  $2m$  and charge  $3e$  enters the region between two charged plates initially moving along  $x$  axis with a speed  $v_x$  as shown in figure. The length of plates are  $L$  and uniform electric field  $E$  is maintained between the plates. The vertical deflection of the particle when leaving the space between the plates is: (neglect the effect of gravitation)



1.  $\frac{3e L^2}{4m v_x^2}$

2.  $\frac{3e L^2}{2m v_x^2}$

3.  $\frac{3e E L^2}{2m v_x^2}$

4.  $\frac{3e E L^2}{4m v_x^2}$

Options :

485584149341. 1

485584149342. 2

485584149343. 3

485584149344. 4

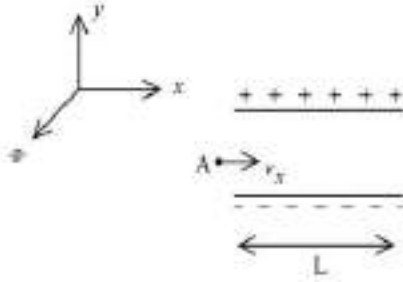
Question Number : 641 Question Id : 48558437336 Question Type : MCQ Option Shuffling : No Is Question Mandatory : No Calculator : None Response Time : N.A Think Time : N.A Minimum Instruction Time : 0

Correct Marks : 5 Wrong Marks : 1

Question Key Details :

Key	Value
Comprehension	MCQ

नीचे दिए गए चित्रानुसार, एक कण जिसका द्रव्यमान  $2m$  एवं आवेश  $3e$ , दो आवेशित पट्टिकाओं के मध्य के क्षेत्र में प्रारम्भिक रूप से  $y$ -अक्ष के अनुरूप  $v_x$  गति के अंदर आता है। पट्टिकाओं की लम्बाई  $L$  है और उनके मध्य एक समान वैद्युत क्षेत्र  $E$  बना हुआ है। पट्टिकाओं के मध्य का क्षेत्र छोड़ने पर कण का ऊर्ध्वाधर विक्षेप क्या होगा; (गुरुत्वाकर्षण प्रभाव को नगण्य माना जाए)



1.  $\frac{3e L^2}{4m v_x^2}$
2.  $\frac{3e L^2}{2m v_x^2}$
3.  $\frac{3e E L^2}{2m v_x^2}$
4.  $\frac{3e E L^2}{4m v_x^2}$

Options :

485584149341. 1  
 485584149342. 2  
 485584149343. 3  
 485584149344. 4

Question Number : 642 Question Id : 48558437337 Question Type : MCQ Option Shuffling : No Is Question Mandatory : No Calculator : None  
 Response Time : N.A Think Time : N.A Minimum Instruction Time : 0  
 Correct Marks : 5 Wrong Marks : 1

Question Key Details :

Key	Value
Comprehension	MCQ

The resistance of the platinum wire of platinum resistance thermometer at  $0^\circ\text{C}$  is  $5 \Omega$  and at  $100^\circ\text{C}$  is  $5.20 \Omega$ . when the thermometer is placed in a hot bath, the resistance become  $5.82 \Omega$ . The temperature of the bath is:

1.  $310^\circ\text{C}$
2.  $310 \text{ K}$
3.  $410^\circ\text{C}$
4.  $410 \text{ K}$

Options :

485584149345. 1  
 485584149346. 2  
 485584149347. 3  
 485584149348. 4

Question Number : 642 Question Id : 48558437337 Question Type : MCQ Option Shuffling : No Is Question Mandatory : No Calculator : None  
 Response Time : N.A Think Time : N.A Minimum Instruction Time : 0

Correct Marks : 5 Wrong Marks : 1



**Question Key Details :**

Key	Value
Comprehension	MCQ

प्लैटिनम प्रतिरोध तापमापी के प्लैटिनम के तार का प्रतिरोध  $0^{\circ}\text{C}$  पर  $5\ \Omega$  और  $100^{\circ}\text{C}$  पर  $5.20\ \Omega$  है। जब तापमापी को तप्तऊष्मक पर रखा जाता है तो उसका प्रतिरोध  $5.82\ \Omega$  हो जाता है। ऊष्मक का ताप है:

1.  $310^{\circ}\text{C}$
2.  $310\ \text{K}$
3.  $410^{\circ}\text{C}$
4.  $410\ \text{K}$

**Options :**

485584149345. 1  
485584149346. 2  
485584149347. 3  
485584149348. 4

**Question Number : 643 Question Id : 48558437338 Question Type : MCQ Option Shuffling : No Is Question Mandatory : No Calculator : None Response Time : N.A Think Time : N.A Minimum Instruction Time : 0**

**Correct Marks : 5 Wrong Marks : 1**

**Question Key Details :**

Key	Value
Comprehension	MCQ

The storage battery of a car has an emf of  $12\ \text{V}$  and internal resistance  $0.4\ \Omega$ . Maximum current that can be drawn from the battery is solution:

1.  $10\ \text{A}$
2.  $20\ \text{A}$
3.  $3\ \text{A}$
4.  $30\ \text{A}$

**Options :**

485584149349. 1  
485584149350. 2  
485584149351. 3  
485584149352. 4

**Question Number : 643 Question Id : 48558437338 Question Type : MCQ Option Shuffling : No Is Question Mandatory : No Calculator : None Response Time : N.A Think Time : N.A Minimum Instruction Time : 0**

**Correct Marks : 5 Wrong Marks : 1**

**Question Key Details :**

Key	Value
Comprehension	MCQ

किसी कार की संचायक बैटरी का वी.वा.बल  $12\ \text{V}$  और आंतरिक प्रतिरोध  $0.4\ \Omega$  है। बैटरी से ली जाने वाली अधिकतम धारा का मान है:

1.  $10\ \text{A}$
2.  $20\ \text{A}$
3.  $3\ \text{A}$
4.  $30\ \text{A}$

**Options :**

485584149349. 1

485584149350. 2

485584149351. 3

485584149352. 4

Question Number : 644 Question Id : 48558437339 Question Type : MCQ Option Shuffling : No Is Question Mandatory : No Calculator : None  
Response Time : N.A Think Time : N.A Minimum Instruction Time : 0

Correct Marks : 5 Wrong Marks : 1

**Question Key Details :**

Key	Value
Comprehension	MCQ

Cyclotron frequency is given by relation:( $q$ = charge of the particle,  $m$ = mass of the particle and  $B$ = strength of magnetic field)

1.  $\frac{qBm}{2\pi}$

2.  $\frac{qBm}{\pi}$

3.  $\frac{qB}{\pi m}$

4.  $\frac{qB}{2\pi m}$

**Options :**

485584149353. 1

485584149354. 2

485584149355. 3

485584149356. 4

Question Number : 644 Question Id : 48558437339 Question Type : MCQ Option Shuffling : No Is Question Mandatory : No Calculator : None  
Response Time : N.A Think Time : N.A Minimum Instruction Time : 0

Correct Marks : 5 Wrong Marks : 1

**Question Key Details :**

Key	Value
Comprehension	MCQ

साइक्लोट्रॉन आवृत्ति को इस सम्बन्ध द्वारा दिया गया है।

( $q$ = कण का आवेश,  $m$ = कण का द्रव्यमान और  $B$ = चुम्बकीय क्षेत्र की प्रबलता)

1.  $\frac{qBm}{2\pi}$

2.  $\frac{qBm}{\pi}$

3.  $\frac{qB}{\pi m}$

4.  $\frac{qB}{2\pi m}$

**Options :**

485584149353. 1

485584149354. 2

485584149355. 3

485584149356. 4

Question Number : 645 Question Id : 48558437340 Question Type : MCQ Option Shuffling : No Is Question Mandatory : No Calculator : None  
Response Time : N.A Think Time : N.A Minimum Instruction Time : 0  
Correct Marks : 5 Wrong Marks : 1

Question Key Details :

Key	Value
Comprehension	MCQ

The minimum magnetic dipole moment of a revolving electron, called Bohr magneton is expressed as ( $e$ = charge of electron,  $m$ = mass of electron )

1.  $\frac{m}{4\pi e} h$

2.  $\frac{m}{\pi e} h$

3.  $\frac{e}{4\pi m} h$

4.  $\frac{e}{\pi m} h$

Options :

- 485584149357. 1
- 485584149358. 2
- 485584149359. 3
- 485584149360. 4

Question Number : 645 Question Id : 48558437340 Question Type : MCQ Option Shuffling : No Is Question Mandatory : No Calculator : None  
Response Time : N.A Think Time : N.A Minimum Instruction Time : 0  
Correct Marks : 5 Wrong Marks : 1

Question Key Details :

Key	Value
Comprehension	MCQ

परिक्रमी इलेक्ट्रॉन का चुम्बकीय द्विध्रुव आघूर्ण, जो कि बोर मैग्नेटॉन कहलाता है, को \_\_\_\_\_ द्वारा व्यक्त किया जाता है।  
( $e$ = charge of electron,  $m$ = mass of electron )

1.  $\frac{m}{4\pi e} h$

2.  $\frac{m}{\pi e} h$

3.  $\frac{e}{4\pi m} h$

4.  $\frac{e}{\pi m} h$

Options :

- 485584149357. 1
- 485584149358. 2
- 485584149359. 3
- 485584149360. 4

Question Number : 646 Question Id : 48558437341 Question Type : MCQ Option Shuffling : No Is Question Mandatory : No Calculator : None  
Response Time : N.A Think Time : N.A Minimum Instruction Time : 0

Correct Marks : 5 Wrong Marks : 1

Question Key Details :

Key	Value
Comprehension	MCQ

Match List I with List II

LIST I		LIST II	
A.	magnetic flux $\phi$	I.	$\mathcal{E} = -\frac{d\phi}{dt}$
B.	EMF $\mathcal{E}$	II.	$\mathcal{E} = -L \left( \frac{dI}{dt} \right)$
C.	Mutual inductance $M$	III.	$\phi = \vec{B} \cdot \vec{A}$
D.	Self inductance	IV.	$\mathcal{E}_1 = -M_{21} \left( \frac{dI_2}{dt} \right)$

Choose the correct answer from the options given below:

1. A-I, B-II, C-III, D-IV
2. A-III, B-I, C-IV, D-II
3. A-IV, B-II, C-III, D-I
4. A-II, B-IV, C-I, D-III

Options :

485584149361. 1

485584149362. 2

485584149363. 3

485584149364. 4

Question Number : 646 Question Id : 48558437341 Question Type : MCQ Option Shuffling : No Is Question Mandatory : No Calculator : None Response Time : N.A Think Time : N.A Minimum Instruction Time : 0

Correct Marks : 5 Wrong Marks : 1

Question Key Details :

Key	Value
Comprehension	MCQ

सूची I का सूची II से मिलान कीजिए

सूची I		सूची II	
A.	चुम्बकीय फ्लक्स $\phi$	I.	$\mathcal{E} = -\frac{d\phi}{dt}$
B.	विद्युत वाहक बल $\mathcal{E}$	II.	$\mathcal{E} = -L \left( \frac{dI}{dt} \right)$
C.	अन्योन्य प्रेरकत्व $M$	III.	$\phi = \vec{B} \cdot \vec{A}$
D.	स्व-प्रेरकत्व	IV.	$\mathcal{E}_1 = -M_{21} \left( \frac{dI_2}{dt} \right)$

निम्नलिखित विकल्पों में से सही उत्तर का चयन कीजिए :

1. A-I, B-II, C-III, D-IV
2. A-III, B-I, C-IV, D-II
3. A-IV, B-II, C-III, D-I
4. A-II, B-IV, C-I, D-III

Options :

485584149301. 1

485584149362. 2

485584149363. 3

485584149364. 4

**Question Number : 647 Question Id : 48558437342 Question Type : MCQ Option Shuffling : No Is Question Mandatory : No Calculator : None Response Time : N.A Think Time : N.A Minimum Instruction Time : 0**

**Correct Marks : 5 Wrong Marks : 1**

**Question Key Details :**

Key	Value
Comprehension	MCQ

A glass lens is immersed in a liquid having refractive index same as that of glass. The lens will behave as :

1. converging lens
2. diverging lens
3. plane glass sheet
4. prism

**Options :**

485584149365. 1

485584149366. 2

485584149367. 3

485584149368. 4

**Question Number : 647 Question Id : 48558437342 Question Type : MCQ Option Shuffling : No Is Question Mandatory : No Calculator : None Response Time : N.A Think Time : N.A Minimum Instruction Time : 0**

**Correct Marks : 5 Wrong Marks : 1**

**Question Key Details :**

Key	Value
Comprehension	MCQ

एक काँच के लेंस को एक द्रव्य में डुबोया गया है काँच और द्रव्य दोनों का अपवर्तनांक एक सामान है। लेंस व्यवहार करेगा:

1. अभिसारी लेंस
2. अपसारी लेंस
3. काँच की समतल शीट
4. प्रिज्म

**Options :**

485584149365. 1

485584149366. 2

485584149367. 3

485584149368. 4

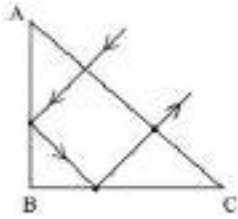
**Question Number : 648 Question Id : 48558437343 Question Type : MCQ Option Shuffling : No Is Question Mandatory : No Calculator : None Response Time : N.A Think Time : N.A Minimum Instruction Time : 0**

**Correct Marks : 5 Wrong Marks : 1**

**Question Key Details :**

Key	Value
Comprehension	MCQ

A ray of light falls on a prism ABC ( $AB = BC$  and  $AB \perp BC$ ). The refractive of the material of the prism should be greater than:



1. 1.30
2. 1.510
3. 1.414
4. 1.230

**Options :**

485584149369. 1  
 485584149370. 2  
 485584149371. 3  
 485584149372. 4

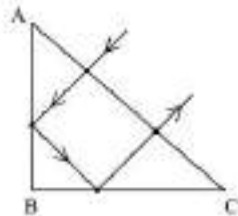
**Question Number : 648 Question Id : 48558437343 Question Type : MCQ Option Shuffling : No Is Question Mandatory : No Calculator : None Response Time : N.A Think Time : N.A Minimum Instruction Time : 0**

**Correct Marks : 5 Wrong Marks : 1**

**Question Key Details :**

Key	Value
Comprehension	MCQ

प्रकाश की एक किरण प्रिज्म ABC ( $AB = BC$  एवं  $AB \perp BC$ ) पर आपतित होती है। प्रिज्म के पदार्थ का अपवर्तनांक अत्यधिक होगा-



1. 1.30
2. 1.510
3. 1.414
4. 1.230

**Options :**

485584149369. 1  
 485584149370. 2  
 485584149371. 3  
 485584149372. 4

**Question Number : 649 Question Id : 48558437344 Question Type : MCQ Option Shuffling : No Is Question Mandatory : No Calculator : None Response Time : N.A Think Time : N.A Minimum Instruction Time : 0**

**Correct Marks : 5 Wrong Marks : 1**

**Question Key Details :**

Key	Value
Comprehension	MCQ

The brilliant sparkle of diamond is due to:

1. scattering
2. total internal reflection
3. diffraction
4. interference

**Options :**

485584149373. 1  
485584149374. 2  
485584149375. 3  
485584149376. 4

**Question Number : 649 Question Id : 48558437344 Question Type : MCQ Option Shuffling : No Is Question Mandatory : No Calculator : None Response Time : N.A Think Time : N.A Minimum Instruction Time : 0 Correct Marks : 5 Wrong Marks : 1**

**Question Key Details :**

Key	Value
Comprehension	MCQ

हीरि कही शानदार चमक इसके कारण होती है -

1. विखरना
2. कुल आंतरिक प्रतिबिंब
3. विवर्तन
4. व्यतिकरण

**Options :**

485584149373. 1  
485584149374. 2  
485584149375. 3  
485584149376. 4

**Question Number : 650 Question Id : 48558437345 Question Type : MCQ Option Shuffling : No Is Question Mandatory : No Calculator : None Response Time : N.A Think Time : N.A Minimum Instruction Time : 0 Correct Marks : 5 Wrong Marks : 1**

**Question Key Details :**

Key	Value
Comprehension	MCQ

A galaxy is moving away from earth with a speed of 520 km/s. The wavelength of sodium line (589.0 nm) observed by an observer on the earth is (approximately) :

1. 588 nm
2. 590.5 nm
3. 590 nm
4. 589.5 nm

**Options :**

485584149377. 1  
485584149378. 2  
485584149379. 3  
485584149380. 4

Question Number : 650 Question Id : 48558437345 Question Type : MCQ Option Shuffling : No Is Question Mandatory : No Calculator : None  
Response Time : N.A Think Time : N.A Minimum Instruction Time : 0

Correct Marks : 5 Wrong Marks : 1

Question Key Details :

Key	Value
Comprehension	MCQ

एक गैलेक्सी पृथ्वी से  $520 \text{ km/s}$  की गति से दूर जा रही है। पृथ्वी पर उपस्थित एक ऑक्जर्बेर को सोडियम लाइन ( $589.0 \text{ nm}$ ) की तरंगदैर्घ्य दिखाई देगी:-

1.  $588 \text{ nm}$
2.  $590.5 \text{ nm}$
3.  $590 \text{ nm}$
4.  $589.5 \text{ nm}$

Options :

485584149377. 1  
485584149378. 2  
485584149379. 3  
485584149380. 4

Question Number : 651 Question Id : 48558437346 Question Type : MCQ Option Shuffling : No Is Question Mandatory : No Calculator : None  
Response Time : N.A Think Time : N.A Minimum Instruction Time : 0

Correct Marks : 5 Wrong Marks : 1

Question Key Details :

Key	Value
Comprehension	MCQ

In a Young's double slit experiment, a beam of light consisting of two wavelengths  $600 \text{ nm}$  and  $550 \text{ nm}$  is used to obtain interference fringes on a screen. The least distance from the central maximum, the bright fringes of the two wavelengths coincide (take  $D/d = 10^3$ ).

1.  $3.6 \text{ mm}$
2.  $2.5 \text{ mm}$
3.  $2 \text{ mm}$
4.  $3 \text{ mm}$

Options :

485584149381. 1  
485584149382. 2  
485584149383. 3  
485584149384. 4

Question Number : 651 Question Id : 48558437346 Question Type : MCQ Option Shuffling : No Is Question Mandatory : No Calculator : None  
Response Time : N.A Think Time : N.A Minimum Instruction Time : 0

Correct Marks : 5 Wrong Marks : 1

Question Key Details :

Key	Value
Comprehension	MCQ



यंग द्विचिह्नी प्रयोग में, प्रकाश की एक विकिरण  $600 \text{ nm}$  एवं  $550 \text{ nm}$  की दो तरंगदैर्घ्य का प्रयोग स्क्रीन पर व्यतिकरण फ्रिंज्स प्राप्त करने में होता है। केन्द्रीय उच्चिष्ठ से न्यूनतम दूरी, जहाँ पर दो तरंगदैर्घ्य के किरण दीप्त फ्रिंज संपाती होते हैं ( $D/d = 10^3$ ).

1.  $3.6 \text{ mm}$
2.  $2.5 \text{ mm}$
3.  $2 \text{ mm}$
4.  $3 \text{ mm}$

Options :

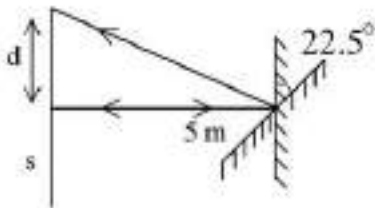
485584149381. 1  
 485584149382. 2  
 485584149383. 3  
 485584149384. 4

Question Number : 652 Question Id : 48558437347 Question Type : MCQ Option Shuffling : No Is Question Mandatory : No Calculator : None  
 Response Time : N.A Think Time : N.A Minimum Instruction Time : 0  
 Correct Marks : 5 Wrong Marks : 1

Question Key Details :

Key	Value
Comprehension	MCQ

A ray of light incident normally on a plane mirror retraces backward as shown in the figure. The mirror is rotated with an angle of  $22.5^\circ$ . The displacement ( $d$ ) of the spot of the reflected light on a screen placed at a distance of  $5 \text{ m}$  is:



1.  $5 \text{ m}$
2.  $2.5 \text{ m}$
3.  $2 \text{ m}$
4.  $10 \text{ m}$

Options :

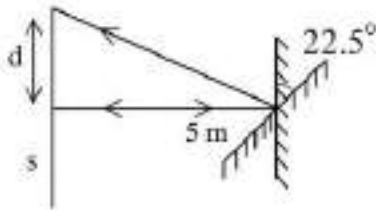
485584149385. 1  
 485584149386. 2  
 485584149387. 3  
 485584149388. 4

Question Number : 652 Question Id : 48558437347 Question Type : MCQ Option Shuffling : No Is Question Mandatory : No Calculator : None  
 Response Time : N.A Think Time : N.A Minimum Instruction Time : 0  
 Correct Marks : 5 Wrong Marks : 1

Question Key Details :

Key	Value
Comprehension	MCQ

प्रकाश की एक किरण, एक समतल दर्पण पर अभिलंबित होती है एवं उसी दिशा में दोबारा परिवर्तित होती है जैसाकि चित्रानुसार दिखाया गया है। दर्पण को  $22.5^\circ$  के कोण से घुमाया जाता है। 5m की दूरी पर स्थित स्क्रीन पर परिवर्तित प्रकाश के बिन्दु (स्पॉट) की दूरी (d) होगी :



1. 5 m
2. 2.5 m
3. 2 m
4. 10 m

Options :

485584149385. 1  
 485584149386. 2  
 485584149387. 3  
 485584149388. 4

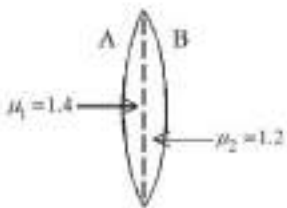
Question Number : 653 Question Id : 48558437348 Question Type : MCQ Option Shuffling : No Is Question Mandatory : No Calculator : None Response Time : N.A Think Time : N.A Minimum Instruction Time : 0

Correct Marks : 5 Wrong Marks : 1

Question Key Details :

Key	Value
Comprehension	MCQ

A convex lens is made of two different materials having radius of face A as 16 cm and that of B is 12 cm as shown in the figure. The effective focal length of the lens is:



1. 24 cm
2. 28 cm
3. 14 cm
4. 4 cm

Options :

485584149389. 1  
 485584149390. 2  
 485584149391. 3  
 485584149392. 4

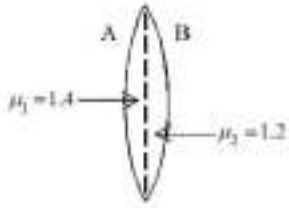
Question Number : 653 Question Id : 48558437348 Question Type : MCQ Option Shuffling : No Is Question Mandatory : No Calculator : None Response Time : N.A Think Time : N.A Minimum Instruction Time : 0

Correct Marks : 5 Wrong Marks : 1

Question Key Details :

Key	Value
-----	-------

एक उत्तल लेंस दो भिन्न पदार्थों से मिलकर बना है जिसमें फलक A के त्रिज्या 16 cm एवं फलक B की त्रिज्या 12 cm चित्रानुसार दर्शाया गया है। लेंस की प्रभावी फोकल दूरी है-



1. 24 cm
2. 28 cm
3. 14 cm
4. 4 cm

**Options :**

485584149389. 1

485584149390. 2

485584149391. 3

485584149392. 4

**Question Number : 654 Question Id : 48558437349 Question Type : MCQ Option Shuffling : No Is Question Mandatory : No Calculator : None Response Time : N.A Think Time : N.A Minimum Instruction Time : 0**

**Correct Marks : 5 Wrong Marks : 1**

**Question Key Details :**

Key	Value
Comprehension	MCQ

A positively charged particles enters normally in a magnetic field directed downwards. The shape of the path followed by the charged particle is:

1. straight line
2. parabolic
3. circular
4. helical

**Options :**

485584149393. 1

485584149394. 2

485584149395. 3

485584149396. 4

**Question Number : 654 Question Id : 48558437349 Question Type : MCQ Option Shuffling : No Is Question Mandatory : No Calculator : None Response Time : N.A Think Time : N.A Minimum Instruction Time : 0**

**Correct Marks : 5 Wrong Marks : 1**

**Question Key Details :**

Key	Value
Comprehension	MCQ

एक धनात्मक आवेशित कण एक चुम्बकीय क्षेत्र में, जोकि नीचे की ओर है अभिलाम्बित प्रवेश करता। आवेशित कण का मार्ग का स्तोप होगा-

1. सीधी रेखा
2. परवलय
3. गोलीय
4. वलियत

**Options :**

485584149393. 1  
485584149394. 2  
485584149395. 3  
485584149396. 4

**Question Number : 655 Question Id : 48558437350 Question Type : MCQ Option Shuffling : No Is Question Mandatory : No Calculator : None Response Time : N.A Think Time : N.A Minimum Instruction Time : 0**

**Correct Marks : 5 Wrong Marks : 1**

**Question Key Details :**

Key	Value
Comprehension	MCQ

If the horizontal and vertical components of earth's magnetic field are equal at a certain place, the angle of dip is:

1.  $90^\circ$
2.  $60^\circ$
3.  $0^\circ$
4.  $45^\circ$

**Options :**

485584149397. 1  
485584149398. 2  
485584149399. 3  
485584149400. 4

**Question Number : 655 Question Id : 48558437350 Question Type : MCQ Option Shuffling : No Is Question Mandatory : No Calculator : None Response Time : N.A Think Time : N.A Minimum Instruction Time : 0**

**Correct Marks : 5 Wrong Marks : 1**

**Question Key Details :**

Key	Value
Comprehension	MCQ

किसी एक स्थान पर यदि पृथ्वी की चुम्बकीय क्षेत्र के उर्ध्वाधर एवं क्षैतिज घटक बराबर हो तब नमन कोण होगा:

1.  $90^\circ$
2.  $60^\circ$
3.  $0^\circ$
4.  $45^\circ$

**Options :**

485584149397. 1  
485584149398. 2  
485584149399. 3  
485584149400. 4

Question Number : 656 Question Id : 48558437351 Question Type : MCQ Option Shuffling : No Is Question Mandatory : No Calculator : None  
 Response Time : N.A Think Time : N.A Minimum Instruction Time : 0  
 Correct Marks : 5 Wrong Marks : 1  
 Question Key Details :

Key	Value
Comprehension	MCQ

Match List I with List II

LIST I		LIST II	
A.	Diamagnetic	I.	Glass
B.	Ferromagnetic	II.	Aluminium
C.	Paramagnetic	III.	Copper
D.	Non-magnetic	IV.	Cobalt

Choose the correct answer from the options given below:

1. A-II, B-I, C-IV, D-III
2. A-I, B-III, C-II, D-IV
3. A-IV, B-I, C-III, D-II
4. A-III, B-IV, C-II, D-I

Options :

485584149401. 1  
 485584149402. 2  
 485584149403. 3  
 485584149404. 4

Question Number : 656 Question Id : 48558437351 Question Type : MCQ Option Shuffling : No Is Question Mandatory : No Calculator : None  
 Response Time : N.A Think Time : N.A Minimum Instruction Time : 0  
 Correct Marks : 5 Wrong Marks : 1  
 Question Key Details :

Key	Value
Comprehension	MCQ

सूची I का सूची II से मिलान कीजिए

सूची I		सूची II	
A.	प्रतिचुम्बकीय	I.	काँच
B.	लौहचुम्बकीय	II.	एल्यूमीनियम
C.	अनुचुम्बकीय	III.	कॉपर
D.	गैरचुम्बकीय	IV.	कोबाल्ट

निम्नलिखित विकल्पों में से सही उत्तर का चयन कीजिए :

1. A-II, B-I, C-IV, D-III
2. A-I, B-III, C-II, D-IV
3. A-IV, B-I, C-III, D-II
4. A-III, B-IV, C-II, D-I

Options :

485584149401. 1  
 485584149402. 2  
 485584149403. 3  
 485584149404. 4

Question Number : 657 Question Id : 48558437352 Question Type : MCQ Option Shuffling : No Is Question Mandatory : No Calculator : None  
Response Time : N.A Think Time : N.A Minimum Instruction Time : 0  
Correct Marks : 5 Wrong Marks : 1  
Question Key Details :

Key	Value
Comprehension	MCQ

The magnetic field at the center of a current carrying circular loop of radius 10 cm is  $0.20 \times 10^{-4}$  T. The magnetic field on the axis of this loop at the distance of 10 cm from the center is:

1.  $5.06 \times 10^{-6}$  T
2.  $3.90 \times 10^{-5}$  T
3.  $7.07 \times 10^{-6}$  T
4.  $8.01 \times 10^{-5}$  T

Options :

485584149405. 1  
485584149406. 2  
485584149407. 3  
485584149408. 4

Question Number : 657 Question Id : 48558437352 Question Type : MCQ Option Shuffling : No Is Question Mandatory : No Calculator : None  
Response Time : N.A Think Time : N.A Minimum Instruction Time : 0  
Correct Marks : 5 Wrong Marks : 1

Question Key Details :

Key	Value
Comprehension	MCQ

10 cm त्रिज्यावाले एक धारा प्रवाहित गोलीय पाश के केंद्र पर चुम्बकीय क्षेत्र  $0.20 \times 10^{-4}$  T है। इस पाशके अक्ष पर केंद्र से 10 cm की दूरी पर चुम्बकीय क्षेत्र होगा -

1.  $5.06 \times 10^{-6}$  T
2.  $3.90 \times 10^{-5}$  T
3.  $7.07 \times 10^{-6}$  T
4.  $8.01 \times 10^{-5}$  T

Options :

485584149405. 1  
485584149406. 2  
485584149407. 3  
485584149408. 4

Question Number : 658 Question Id : 48558437353 Question Type : MCQ Option Shuffling : No Is Question Mandatory : No Calculator : None  
Response Time : N.A Think Time : N.A Minimum Instruction Time : 0  
Correct Marks : 5 Wrong Marks : 1  
Question Key Details :

Key	Value
Comprehension	MCQ

A straight current carrying wire is placed on the axis of a current carrying circular loop. The wire

1. exerts an inward force on the loop
2. exerts an outward force on the loop
3. exerts no force on the loop
4. exerts a force on the loop parallel to its axes

Options :

485584149409. 1  
485584149410. 2  
485584149411. 3  
485584149412. 4

Question Number : 658 Question Id : 48558437353 Question Type : MCQ Option Shuffling : No Is Question Mandatory : No Calculator : None  
Response Time : N.A Think Time : N.A Minimum Instruction Time : 0

Correct Marks : 5 Wrong Marks : 1

Question Key Details :

Key	Value
Comprehension	MCQ

एक सीधा धार प्रवाहित तार को, एक धारा प्रवाहित गोलीय पाश के अक्ष पर रखा गया है। तार

1. पाश पर अंदर की तरफ बल लगायेगा
2. पाश पर बाहर की ओर तरफ बल लगायेगा
3. पाश पर कोई बल नहीं लगायेगा
4. पाश की अक्ष के समांतर बल लगायेगा

Options :

485584149409. 1  
485584149410. 2  
485584149411. 3  
485584149412. 4

Question Number : 659 Question Id : 48558437354 Question Type : MCQ Option Shuffling : No Is Question Mandatory : No Calculator : None  
Response Time : N.A Think Time : N.A Minimum Instruction Time : 0

Correct Marks : 5 Wrong Marks : 1

Question Key Details :

Key	Value
Comprehension	MCQ

A battery of 3 volt is connected with an external resistance of  $3 \Omega$  and a galvanometer of resistance  $60 \Omega$  in series. If a shunt of resistance  $0.02 \Omega$  is connected with galvanometer then the values of the equivalent resistance of circuit and the current through the circuit will be:

1.  $1.19 \Omega$ ,  $1.59 \Omega$
2.  $3.02 \Omega$ ,  $0.99 \Omega$
3.  $5.98 \Omega$ ,  $2.9 \Omega$
4.  $6.42 \Omega$ ,  $3.5 \Omega$

Options :

485584149413. 1  
485584149414. 2  
485584149415. 3  
485584149416. 4

Question Number : 659 Question Id : 48558437354 Question Type : MCQ Option Shuffling : No Is Question Mandatory : No Calculator : None  
Response Time : N.A Think Time : N.A Minimum Instruction Time : 0  
Correct Marks : 5 Wrong Marks : 1

Question Key Details :

Key	Value
Comprehension	MCQ

3V की बैटरी को श्रेणीक्रम में एक  $3\ \Omega$  वाले बाहरी प्रतिरोध एवं  $60\ \Omega$  प्रतिरोध वाले गैल्वेनोमीटर से जोड़ा गया है। यदि  $0.02\ \Omega$  प्रतिरोध वाले शंट (shunt) को गैल्वेनोमीटर के साथ जोड़ा गया है अतब परिपथ का तुल्य प्रतिरोध एवं परिपथ में बहने वाली धारा का मान होगा-

1.  $1.19\ \Omega, 1.59\ \Omega$
2.  $3.02\ \Omega, 0.99\ \Omega$
3.  $5.98\ \Omega, 2.9\ \Omega$
4.  $6.42\ \Omega, 3.5\ \Omega$

Options :

485584149413. 1  
485584149414. 2  
485584149415. 3  
485584149416. 4

Question Number : 660 Question Id : 48558437355 Question Type : MCQ Option Shuffling : No Is Question Mandatory : No Calculator : None  
Response Time : N.A Think Time : N.A Minimum Instruction Time : 0  
Correct Marks : 5 Wrong Marks : 1

Question Key Details :

Key	Value
Comprehension	MCQ

The power dissipated at resonance in LCR series circuit is

1. maximum through resistor
2. maximum through inductor
3. maximum through capacitor
4. minimum through capacitor

Options :

485584149417. 1  
485584149418. 2  
485584149419. 3  
485584149420. 4

Question Number : 660 Question Id : 48558437355 Question Type : MCQ Option Shuffling : No Is Question Mandatory : No Calculator : None  
Response Time : N.A Think Time : N.A Minimum Instruction Time : 0  
Correct Marks : 5 Wrong Marks : 1

Question Key Details :

Key	Value
Comprehension	MCQ



अनुनाद की स्थिति में, LCR परिपथ में शक्ति क्षय है-

1. प्रतिरोध के साथ अधिकतम
2. प्रेरण के साथ अधिकतम
3. संधारित्र के साथ अधिकतम
4. संधारित्र के साथ न्यूनतम

Options :

485584149417. 1  
485584149418. 2  
485584149419. 3  
485584149420. 4

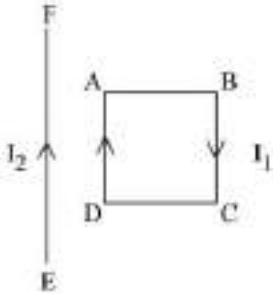
Question Number : 661 Question Id : 48558437356 Question Type : MCQ Option Shuffling : No Is Question Mandatory : No Calculator : None Response Time : N.A Think Time : N.A Minimum Instruction Time : 0

Correct Marks : 5 Wrong Marks : 1

Question Key Details :

Key	Value
Comprehension	MCQ

As shown in the figure, a square loop ABCD carrying current  $I_1$  is placed near a long straight wire EF carrying current  $I_2$ .



1. Start rotation
2. Move toward straight wire
3. Move away from straight wire
4. remain stationary

Options :

485584149421. 1  
485584149422. 2  
485584149423. 3  
485584149424. 4

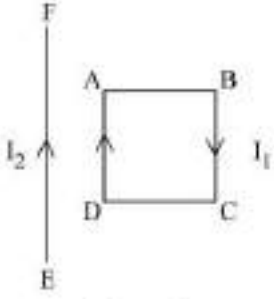
Question Number : 661 Question Id : 48558437356 Question Type : MCQ Option Shuffling : No Is Question Mandatory : No Calculator : None Response Time : N.A Think Time : N.A Minimum Instruction Time : 0

Correct Marks : 5 Wrong Marks : 1

Question Key Details :

Key	Value
Comprehension	MCQ

दर्शाए गए चित्रानुसार, एक वर्गाकार पाश ABCD जिसमें प्रवाहीत धारा  $I_1$  है, को एक लम्बी सीधी तार EF, जिसमें प्रवाहित धारा  $I_2$  है, के पास रखा गया। यह पाश है:



1. प्रारम्भिक परिक्रमण
2. सीधे तार की ओर गति
3. सीधे तार से दूर गति
4. स्थिर रहेगा

**Options :**

485584149421. 1  
 485584149422. 2  
 485584149423. 3  
 485584149424. 4

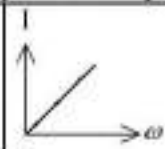

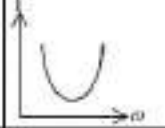

Question Number : 662 Question Id : 48558437357 Question Type : MCQ Option Shuffling : No Is Question Mandatory : No Calculator : None  
 Response Time : N.A Think Time : N.A Minimum Instruction Time : 0

Correct Marks : 5 Wrong Marks : 1

Question Key Details :

Key	Value
Comprehension	MCQ

Match List I with List II

LIST I (impedance vs frequency curve)		LIST II (type of circuit)	
A.		I.	LR circuit
B.		II.	Purely inductive circuit
C.		III.	Purely capacitive circuit
D.		IV.	LCR circuit

Choose the correct answer from the options given below:

1. A-I, B-II, C-III, D-IV
2. A-II, B-III, C-IV, D-I
3. A-IV, B-III, C-II, D-I
4. A-II, B-III, C-I, D-IV

**Options :**

485584149425. 1

485584149426. 2

485584149427. 3

485584149428. 4

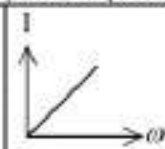

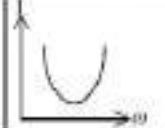
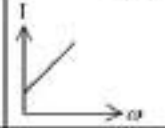
**Question Number : 662 Question Id : 48558437357 Question Type : MCQ Option Shuffling : No Is Question Mandatory : No Calculator : None Response Time : N.A Think Time : N.A Minimum Instruction Time : 0**

**Correct Marks : 5 Wrong Marks : 1**

**Question Key Details :**

Key	Value
Comprehension	MCQ

सूची I का सूची II से मिलान कीजिए

LIST I (प्रतिबाधा एवं आवृत्ति चक्र)		LIST II (परिपथ का प्रकार)	
A.		I.	LR परिपथ
B.		II.	शुद्ध प्रेरक परिपथ
C.		III.	शुद्ध संधारित्र परिपथ
D.		IV.	LCR परिपथ

निम्नलिखित विकल्पों में से सही उत्तर का चयन कीजिए :

1. A-I, B-II, C-III, D-IV
2. A-II, B-III, C-IV, D-I
3. A-IV, B-III, C-II, D-I
4. A-II, B-III, C-I, D-IV

**Options :**

485584149425. 1  
485584149426. 2  
485584149427. 3  
485584149428. 4

Question Number : 663 Question Id : 48558437358 Question Type : MCQ Option Shuffling : No Is Question Mandatory : No Calculator : None Response Time : N.A Think Time : N.A Minimum Instruction Time : 0

Correct Marks : 5 Wrong Marks : 1

Question Key Details :

Key	Value
Comprehension	MCQ

A straight wire of mass 200 g and length 1.5 m carries a current of 2 A. It is suspended in mid air by a uniform horizontal magnetic field B. The magnitude of B is: ( $g = 9.8 \text{ m/s}^2$ )

1. 2 T
2. 1.5 T
3. 0.35 T
4. 0.65 T

**Options :**

485584149429. 1  
485584149430. 2  
485584149431. 3  
485584149432. 4

Question Number : 663 Question Id : 48558437358 Question Type : MCQ Option Shuffling : No Is Question Mandatory : No Calculator : None  
Response Time : N.A Think Time : N.A Minimum Instruction Time : 0

Correct Marks : 5 Wrong Marks : 1

Question Key Details :

Key	Value
Comprehension	MCQ

200 gm द्रव्यमान एवं 1.5 m लम्बाई के एक सीधे तार में 2 A की धारा प्रवाहित होती हैं। एक समान क्षेत्रीय चुम्बकीय क्षेत्र B द्वारा इसकी हवा में लटकाया गया है। चुम्बकीय क्षेत्र B का मान है: ( $g = 9.8 \text{ m/s}^2$ )

1. 2 T
2. 1.5 T
3. 0.55 T
4. 0.65 T

Options :

485584149429. 1  
485584149430. 2  
485584149431. 3  
485584149432. 4

Question Number : 664 Question Id : 48558437359 Question Type : MCQ Option Shuffling : No Is Question Mandatory : No Calculator : None  
Response Time : N.A Think Time : N.A Minimum Instruction Time : 0

Correct Marks : 5 Wrong Marks : 1

Question Key Details :

Key	Value
Comprehension	MCQ

A straight conductor of length 0.5 m is moved with a speed of 12 m/s along the direction of a uniform magnetic field. The emf induced across its ends will be:

1. 24 V
2. 2.4 V
3. Zero
4. 6 V

Options :

485584149433. 1  
485584149434. 2  
485584149435. 3  
485584149436. 4

Question Number : 664 Question Id : 48558437359 Question Type : MCQ Option Shuffling : No Is Question Mandatory : No Calculator : None  
Response Time : N.A Think Time : N.A Minimum Instruction Time : 0

Correct Marks : 5 Wrong Marks : 1

Question Key Details :

Key	Value
Comprehension	MCQ

एक रेखीय चालक, जिसकी लम्बाई  $0.5\text{ m}$  है,  $12\text{ m/s}$  की गति से एक समान चुम्बकीय क्षेत्र की दिशा में गति कर रहा है। इसके सिरों पर उत्पन्न वि. वा.व. होगा-

1.  $24\text{ V}$
2.  $2.4\text{ V}$
3. Zero
4.  $6\text{ V}$

**Options :**

485584149433. 1  
485584149434. 2  
485584149435. 3  
485584149436. 4

**Question Number : 665 Question Id : 48558437360 Question Type : MCQ Option Shuffling : No Is Question Mandatory : No Calculator : None Response Time : N.A Think Time : N.A Minimum Instruction Time : 0 Correct Marks : 5 Wrong Marks : 1**

**Question Key Details :**

Key	Value
Comprehension	MCQ

A thermal power plant produces electric power of  $1000\text{ kW}$  at  $10000\text{ V}$ , which is to be transported  $20\text{ km}$  away from the power plant. The transmission line has resistance of  $0.5\ \Omega/\text{km}$ , the percentage power dissipation during transmission is:

1.  $10\%$
2.  $5\%$
3.  $20\%$
4.  $40\%$

**Options :**

485584149437. 1  
485584149438. 2  
485584149439. 3  
485584149440. 4

**Question Number : 665 Question Id : 48558437360 Question Type : MCQ Option Shuffling : No Is Question Mandatory : No Calculator : None Response Time : N.A Think Time : N.A Minimum Instruction Time : 0 Correct Marks : 5 Wrong Marks : 1**

**Question Key Details :**

Key	Value
Comprehension	MCQ

एक ऊष्मीय शक्ति संयंत्र  $1000\text{ kW}$ ,  $10000\text{ V}$  की वैद्युत शक्ति को उत्पन्न करता है जोकि संयंत्र से  $20\text{ km}$  की दूरी पर भेजी जाती है। संचरण लाइन का प्रतिरोध  $0.5\ \Omega/\text{km}$  है संचरण के दौरान प्रतिशत शक्ति क्षय है-

1.  $10\%$
2.  $5\%$
3.  $20\%$
4.  $40\%$

**Options :**

485584149437. 1  
485584149438. 2

485584149439. 3  
485584149440. 4

Question Number : 666 Question Id : 48558437361 Question Type : MCQ Option Shuffling : No Is Question Mandatory : No Calculator : None  
Response Time : N.A Think Time : N.A Minimum Instruction Time : 0  
Correct Marks : 5 Wrong Marks : 1

Question Key Details :

Key	Value
Comprehension	MCQ

Electric and Magnetic field oscillate sinusoidally in space and time in an EM wave.  $\vec{E}$  and  $\vec{B}$  are perpendicular to each other and to the direction of propagation. The direction of propagation is given by:

1.  $\frac{\vec{E}}{\vec{B}}$

2.  $\vec{B} \times \vec{E}$

3.  $\vec{E} \times \vec{B}$

4.  $\vec{E} \cdot \vec{B}$

Options :

485584149441. 1  
485584149442. 2  
485584149443. 3  
485584149444. 4

Question Number : 666 Question Id : 48558437361 Question Type : MCQ Option Shuffling : No Is Question Mandatory : No Calculator : None  
Response Time : N.A Think Time : N.A Minimum Instruction Time : 0  
Correct Marks : 5 Wrong Marks : 1

Question Key Details :

Key	Value
Comprehension	MCQ

एक वैद्युतचुम्बकीय किरण में, वैद्युत एवं चुम्बकीय क्षेत्र एक-दूसरे के साथ साइनोसाइडल दोलन करते हैं।  $\vec{E}$  एवं  $\vec{B}$  एक-दूसरे के तबियत एक संचरण की दिशा के तबियत हैं। संचरण की दिशा होगी -

1.  $\frac{\vec{E}}{\vec{B}}$

2.  $\vec{B} \times \vec{E}$

3.  $\vec{E} \times \vec{B}$

4.  $\vec{E} \cdot \vec{B}$

Options :

485584149441. 1  
485584149442. 2  
485584149443. 3  
485584149444. 4

Question Number : 667 Question Id : 48558437362 Question Type : MCQ Option Shuffling : No Is Question Mandatory : No Calculator : None  
Response Time : N.A Think Time : N.A Minimum Instruction Time : 0  
Correct Marks : 5 Wrong Marks : 1

Question Key Details :

Key	Value
Comprehension	MCQ

The displacement current flows in a dielectric of a capacitor when potential difference across its plates is:

- A. decreasing with time
- B. zero
- C. increasing with time
- D. assumed a constant value.

Choose the correct options from the options given below:

- 1. A and C only
- 2. A, B and D only
- 3. B and C only
- 4. B and D only

**Options :**

- 485584149445. 1
- 485584149446. 2
- 485584149447. 3
- 485584149448. 4

**Question Number : 667 Question Id : 48558437362 Question Type : MCQ Option Shuffling : No Is Question Mandatory : No Calculator : None Response Time : N.A Think Time : N.A Minimum Instruction Time : 0 Correct Marks : 5 Wrong Marks : 1**

**Question Key Details :**

Key	Value
Comprehension	MCQ

एक परावैद्युत संधारित्र में विस्थापन धारा प्रवाहित होती है जब इसकी पट्टिकाओं के मध्य विभवान्तर होगा .

- A. समय के साथ कम होता है।
- B. शून्य
- C. समय के साथ बढ़ता है।
- D. स्थिर मान माना जाता है।

नीचे दिए गए विकल्पों में से सही उत्तर का चयन कीजिए:

- 1. केवल A और C
- 2. केवल A, B और D
- 3. केवल B और C
- 4. केवल B और D

**Options :**

- 485584149445. 1
- 485584149446. 2
- 485584149447. 3
- 485584149448. 4

**Question Number : 668 Question Id : 48558437363 Question Type : MCQ Option Shuffling : No Is Question Mandatory : No Calculator : None Response Time : N.A Think Time : N.A Minimum Instruction Time : 0**

**Correct Marks : 5 Wrong Marks : 1**

**Question Key Details :**

Key	Value
Comprehension	MCQ



The macroscopic objects in our daily life do not show wave-like properties, because:

1. The waves cannot be associated with these objects
2. The wavelength of waves associated with these objects are beyond any measurement due to their extremely small values.
3. The wavelengths of waves associated with these objects are beyond any measurement due to their extremely large values
4. electromagnetic waves associated with these objects lie in ultraviolet region

Options :

485584149449. 1  
485584149450. 2  
485584149451. 3  
485584149452. 4

Question Number : 668 Question Id : 48558437363 Question Type : MCQ Option Shuffling : No Is Question Mandatory : No Calculator : None  
Response Time : N.A Think Time : N.A Minimum Instruction Time : 0

Correct Marks : 5 Wrong Marks : 1

Question Key Details :

Key	Value
Comprehension	MCQ

हमारे दैनिक जीवन में दीर्घाकार वस्तुएं प्रकाश तरंग जैसी विशेषताएं प्रदर्शित करती नहीं करती हैं क्योंकि:

1. तरंग इन वस्तुओं के साथ संबंधित नहीं होती हैं।
2. इन वस्तुओं के साथ संबंधित तरंगों की तरंगदैर्घ्य का मान बहुत कम होता है जोकि किसी यंत्र द्वारा मापा नहीं जा सकता है।
3. इन वस्तुओं के साथ संबंधित तरंगों की तरंगदैर्घ्य का मान बहुत अधिक होता है जब कि किसी यंत्र द्वारा मापा नहीं जा सकता है।
4. इन वस्तुओं के सतह संबंधित वैद्युत चुम्बकीय तरंग परावैर्बैंगनी क्षेत्र में आती है।

Options :

485584149449. 1  
485584149450. 2  
485584149451. 3  
485584149452. 4

Question Number : 669 Question Id : 48558437364 Question Type : MCQ Option Shuffling : No Is Question Mandatory : No Calculator : None  
Response Time : N.A Think Time : N.A Minimum Instruction Time : 0

Correct Marks : 5 Wrong Marks : 1

Question Key Details :

Key	Value
Comprehension	MCQ

Dimensional formula of plank constant is:

1.  $[ML^2T^{-3}]$
2.  $[M^0L^0T^0]$
3.  $[ML^3T^2]$
4.  $[ML^2T^{-1}]$

Options :

485584149453. 1

485584149454. 2

485584149455. 3

485584149456. 4

Question Number : 669 Question Id : 48558437364 Question Type : MCQ Option Shuffling : No Is Question Mandatory : No Calculator : None  
Response Time : N.A Think Time : N.A Minimum Instruction Time : 0

Correct Marks : 5 Wrong Marks : 1

Question Key Details :

Key	Value
Comprehension	MCQ

प्लॉक नियतांक का नियामक सूत्र है-

1.  $[ML^2T^{-3}]$

2.  $[M^0L^0T^0]$

3.  $[ML^3T^2]$

4.  $[ML^2T^{-1}]$

Options :

485584149453. 1

485584149454. 2

485584149455. 3

485584149456. 4

Question Number : 670 Question Id : 48558437365 Question Type : MCQ Option Shuffling : No Is Question Mandatory : No Calculator : None  
Response Time : N.A Think Time : N.A Minimum Instruction Time : 0

Correct Marks : 5 Wrong Marks : 1

Question Key Details :

Key	Value
Comprehension	MCQ

By using Einstein photoelectric equation, if we consider kinetic energy of photoelectrons on y-axis and frequency of incident radiation on x-axis, the slope of the graph will represent (the symbols have their usual meanings).

1.  $\frac{h}{e}$

2.  $h$

3.  $\Phi_0$

4.  $v_0$

Options :

485584149457. 1

485584149458. 2

485584149459. 3

485584149460. 4

Question Number : 670 Question Id : 48558437365 Question Type : MCQ Option Shuffling : No Is Question Mandatory : No Calculator : None  
Response Time : N.A Think Time : N.A Minimum Instruction Time : 0

Correct Marks : 5 Wrong Marks : 1

Question Key Details :

Key	Value
Comprehension	MCQ

आइंसरीन प्रकाश-वैद्युत सूत्र का प्रयोग करके, यदि हम  $y$ -अक्ष पर फोटो इलेक्ट्रान की गतिज ऊर्जा एवं  $x$ -अक्ष पर आपतित विकिरण की आवृत्ति को ले ले तब ग्राफ का ढाल प्रदर्शित करता है। प्रतीकों का यहाँ पर वही मान है।

1.  $\frac{h}{e}$

2.  $h$

3.  $\Phi_0$

4.  $v_0$

**Options :**

485584149457. 1

485584149458. 2

485584149459. 3

485584149460. 4

**Question Number : 671 Question Id : 48558437366 Question Type : MCQ Option Shuffling : No Is Question Mandatory : No Calculator : None Response Time : N.A Think Time : N.A Minimum Instruction Time : 0**

**Correct Marks : 5 Wrong Marks : 1**

**Question Key Details :**

Key	Value
Comprehension	MCQ

In a Rutherford's scattering experiment, the kinetic energy of  $\alpha$ -particle incident on gold foil is doubled, then the distance of closest approach will be:

1. doubled

2. halved

3. four times

4. one fourth

**Options :**

485584149461. 1

485584149462. 2

485584149463. 3

485584149464. 4

**Question Number : 671 Question Id : 48558437366 Question Type : MCQ Option Shuffling : No Is Question Mandatory : No Calculator : None Response Time : N.A Think Time : N.A Minimum Instruction Time : 0**

**Correct Marks : 5 Wrong Marks : 1**

**Question Key Details :**

Key	Value
Comprehension	MCQ

रदरफोर्ड के विकिरण परीक्षण में, स्वर्ण पत्रों पर आपतित  $\alpha$ -कण की गतिज ऊर्जा दोगुनी क की जाती है, तब निकटतम उपगमन की दूरी होगी-

1. दोगुनी

2. आधी

3. चार गुना

4. एक चौथाई

**Options :**

485584149461. 1

485584149462. 2  
485584149463. 3  
485584149464. 4

Question Number : 672 Question Id : 48558437367 Question Type : MCQ Option Shuffling : No Is Question Mandatory : No Calculator : None  
Response Time : N.A Think Time : N.A Minimum Instruction Time : 0  
Correct Marks : 5 Wrong Marks : 1  
Question Key Details :

Key	Value
Comprehension	MCQ

Match List I with List II

LIST I	LIST II
A. $\alpha$ -decay	I. ${}^{15}_8\text{O} \rightarrow {}^{15}_7\text{N} + \dots$
B. $\beta^+$ decay	II. ${}^{238}_{92}\text{U} \rightarrow {}^{234}_{90}\text{Th} + \dots$
C. fission	III. ${}^{185}_{83}\text{Bi} \rightarrow {}^{184}_{82}\text{Pb} + \dots$
D. proton emission	IV. ${}^{259}_{94}\text{Pu} \rightarrow {}^{249}_{93}\text{La} + \dots$

Choose the correct answer from the options given below:

1. A-IV, B-II, C-I, D-III
2. A-I, B-III, C-II, D-IV
3. A-II, B-I, C-IV, D-III
4. A-IV, B-III, C-II, D-I

Options :

485584149465. 1  
485584149466. 2  
485584149467. 3  
485584149468. 4

Question Number : 672 Question Id : 48558437367 Question Type : MCQ Option Shuffling : No Is Question Mandatory : No Calculator : None  
Response Time : N.A Think Time : N.A Minimum Instruction Time : 0  
Correct Marks : 5 Wrong Marks : 1

Question Key Details :

Key	Value
Comprehension	MCQ

सूची I का सूची II से मिलान कीजिए

सूची I	सूची II
A. $\alpha$ - क्षय	I. ${}^{15}_8\text{O} \rightarrow {}^{15}_7\text{N} + \dots$
B. $\beta^+$ क्षय	II. ${}^{238}_{92}\text{U} \rightarrow {}^{234}_{90}\text{Th} + \dots$
C. विखंडन	III. ${}^{185}_{83}\text{Bi} \rightarrow {}^{184}_{82}\text{Pb} + \dots$
D. प्रोटॉन उत्सर्जन	IV. ${}^{259}_{94}\text{Pu} \rightarrow {}^{249}_{93}\text{La} + \dots$

निम्नलिखित विकल्पों में से सही उत्तर का चयन कीजिए :

1. A-IV, B-II, C-I, D-III
2. A-I, B-III, C-II, D-IV
3. A-II, B-I, C-IV, D-III
4. A-IV, B-III, C-II, D-I

Options :

485584149465. 1  
485584149466. 2

485584149467. 3

485584149468. 4

Question Number : 673 Question Id : 48558437368 Question Type : MCQ Option Shuffling : No Is Question Mandatory : No Calculator : None

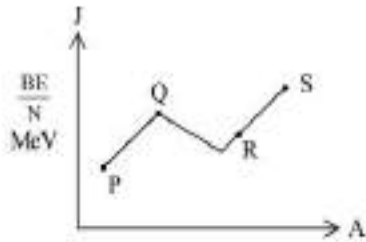
Response Time : N.A Think Time : N.A Minimum Instruction Time : 0

Correct Marks : 5 Wrong Marks : 1

Question Key Details :

Key	Value
Comprehension	MCQ

For the given Binding energy per nucleon ( $\frac{BE}{N}$ ) v/s Mass number (A) curve which is the correct order of increasing stability.



1. PQRS
2. PRQS
3. SQRP
4. PSQR

Options :

485584149469. 1

485584149470. 2

485584149471. 3

485584149472. 4

Question Number : 673 Question Id : 48558437368 Question Type : MCQ Option Shuffling : No Is Question Mandatory : No Calculator : None

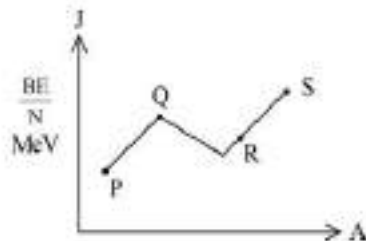
Response Time : N.A Think Time : N.A Minimum Instruction Time : 0

Correct Marks : 5 Wrong Marks : 1

Question Key Details :

Key	Value
Comprehension	MCQ

दिए गए चित्र में, बन्ध ऊर्जा प्रति न्यूक्लियॉन ( $\frac{BE}{N}$ ) v/s द्रव्यमान संख्या (A), में स्थिरता का वंटाता हटा क्रम है:



1. PQRS
2. PRQS
3. SQRP
4. PSQR

Options :

485584149469. 1  
485584149470. 2  
485584149471. 3  
485584149472. 4

Question Number : 674 Question Id : 48558437369 Question Type : MCQ Option Shuffling : No Is Question Mandatory : No Calculator : None  
Response Time : N.A Think Time : N.A Minimum Instruction Time : 0  
Correct Marks : 5 Wrong Marks : 1

Question Key Details :

Key	Value
Comprehension	MCQ

The plot of the  $\ln(R/R_0)$  versus  $\ln(A)$  is ( $R$  = radius of nucleus,  $A$  = mass number and  $R_0$  = constant)

1. a parabola
2. an ellipse
3. exponential
4. a straight line

Options :

485584149473. 1  
485584149474. 2  
485584149475. 3  
485584149476. 4

Question Number : 674 Question Id : 48558437369 Question Type : MCQ Option Shuffling : No Is Question Mandatory : No Calculator : None  
Response Time : N.A Think Time : N.A Minimum Instruction Time : 0  
Correct Marks : 5 Wrong Marks : 1

Question Key Details :

Key	Value
Comprehension	MCQ

$\ln(R/R_0)$  vs  $\ln(A)$  के मध्य ग्राफ होगा ( $R$  = न्यूक्लियस की त्रिज्या,  $A$  = द्रव्यमान संख्या  $R_0$  = नियतांक)

1. परवलय
2. दीर्घवृत्त
3. घातांक
4. सीधी रेखा

Options :

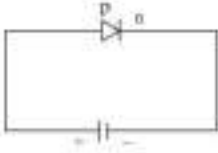
485584149473. 1  
485584149474. 2  
485584149475. 3  
485584149476. 4

Question Number : 675 Question Id : 48558437370 Question Type : MCQ Option Shuffling : No Is Question Mandatory : No Calculator : None  
Response Time : N.A Think Time : N.A Minimum Instruction Time : 0  
Correct Marks : 5 Wrong Marks : 1

Question Key Details :

Key	Value
Comprehension	MCQ

In the given circuit diagram the appropriate statement is:



1. The diode is reverse biased
2. The depletion layer width increases and the barrier height reduces
3. The depletion layer width decreases and the barrier height reduces
4. Both the depletion layer width and the barrier height increase.

Options :

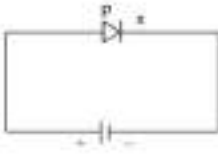
485584149477. 1  
 485584149478. 2  
 485584149479. 3  
 485584149480. 4

Question Number : 675 Question Id : 48558437370 Question Type : MCQ Option Shuffling : No Is Question Mandatory : No Calculator : None  
 Response Time : N.A Think Time : N.A Minimum Instruction Time : 0  
 Correct Marks : 5 Wrong Marks : 1

Question Key Details :

Key	Value
Comprehension	MCQ

देये गए परिपथ में, सही कथन होगा-



1. डायोड पश्चदिशिकबायस में
2. हासी क्षेत्र बढ़ता है एवं रोधिका की ऊँचाई घटती है
3. हासी क्षेत्र कम होता है एवं रोधिका की ऊँचाई घटती है
4. हासी क्षेत्र एवं रोधिका ऊँचाई दोनों ही बढ़ जाती है।

Options :

485584149477. 1  
 485584149478. 2  
 485584149479. 3  
 485584149480. 4

Question Number : 676 Question Id : 48558437371 Question Type : MCQ Option Shuffling : No Is Question Mandatory : No Calculator : None  
 Response Time : N.A Think Time : N.A Minimum Instruction Time : 0  
 Correct Marks : 5 Wrong Marks : 1

Question Key Details :

Key	Value
Comprehension	MCQ

The logic circuit given in figure is equivalent to:



1. OR gate
2. NOT gate
3. NAND gate
4. AND gate

Options :

- 485584149481. 1
- 485584149482. 2
- 485584149483. 3
- 485584149484. 4

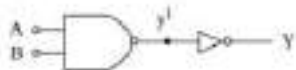
Question Number : 676 Question Id : 48558437371 Question Type : MCQ Option Shuffling : No Is Question Mandatory : No Calculator : None Response Time : N.A Think Time : N.A Minimum Instruction Time : 0

Correct Marks : 5 Wrong Marks : 1

Question Key Details :

Key	Value
Comprehension	MCQ

दिए गए चित्र में लॉजिक परिपथ समतुल्य है



1. OR गेट
2. NOT गेट
3. NAND गेट
4. AND गेट

Options :

- 485584149481. 1
- 485584149482. 2
- 485584149483. 3
- 485584149484. 4

Question Number : 677 Question Id : 48558437372 Question Type : MCQ Option Shuffling : No Is Question Mandatory : No Calculator : None Response Time : N.A Think Time : N.A Minimum Instruction Time : 0

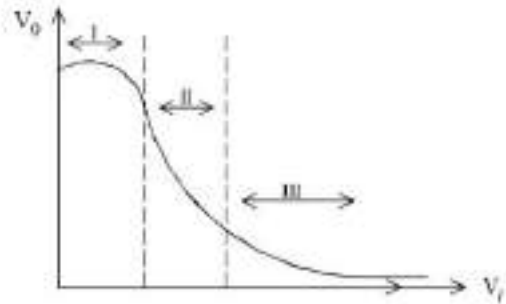
Correct Marks : 5 Wrong Marks : 1

Question Key Details :

Key	Value
Comprehension	MCQ



Which of the following region of output voltage ( $V_o$ ) vs input voltage ( $V_i$ ) graph for base-biased transistor in common emitter configuration shows the cut off region.



1. I
2. II
3. III
4. Both I and III

Options :

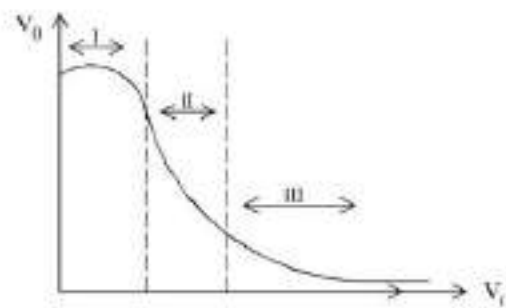
485584149485. 1
485584149486. 2
485584149487. 3
485584149488. 4

Question Number : 677 Question Id : 48558437372 Question Type : MCQ Option Shuffling : No Is Question Mandatory : No Calculator : None  
 Response Time : N.A Think Time : N.A Minimum Instruction Time : 0  
 Correct Marks : 5 Wrong Marks : 1

Question Key Details :

Key	Value
Comprehension	MCQ

निर्गत वोल्टेज ( $V_o$ ) vs निवेश वोल्टेज ( $V_i$ ) के ग्राफ में, कॉमन अमित्र विन्यास के बेस-बयसड-ट्रांजिस्टर के, निरागत वोल्टेज ( $V_o$ ) vs निवेश ( $V_i$ ) ग्राफ में कौनसा भाग कट-ऑफ भाग को प्रदर्शित करता है-



1. I
2. II
3. III
4. I और III दोनों

Options :

485584149485. 1
485584149486. 2
485584149487. 3
485584149488. 4

Question Number : 678 Question Id : 48558437373 Question Type : MCQ Option Shuffling : No Is Question Mandatory : No Calculator : None  
 Response Time : N.A Think Time : N.A Minimum Instruction Time : 0  
 Correct Marks : 5 Wrong Marks : 1  
 Question Key Details :

Key	Value
Comprehension	MCQ

Match List I with List II

LIST I		LIST II	
A.		I.	p-n junction diode
B.		II.	Photo diode
C.		III.	solar cell
D.		IV.	Zener diode

Choose the correct answer from the options given below:

1. A-III, B-I, C-II, D-IV
2. A-I, B-III, C-IV, D-II
3. A-II, B-IV, C-I, D-III
4. A-I, B-II, C-III, D-IV

Options :

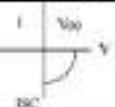
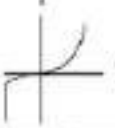
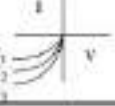

485584149489. 1  
 485584149490. 2  
 485584149491. 3  
 485584149492. 4

Question Number : 678 Question Id : 48558437373 Question Type : MCQ Option Shuffling : No Is Question Mandatory : No Calculator : None  
 Response Time : N.A Think Time : N.A Minimum Instruction Time : 0

Correct Marks : 5 Wrong Marks : 1  
 Question Key Details :

Key	Value
Comprehension	MCQ

सूची I का सूची II से मिलान कीजिए

सूची I		सूची II	
A.		I.	p-n संधि डायोड
B.		II.	फोटो डायोड
C.		III.	सोलर सेल
D.		IV.	जीनर डायोड

नीचे दिए गए विकल्पों में से सही उत्तर का चयन कीजिए:

1. A-III, B-I, C-II, D-IV

2. A-I, B-III, C-IV, D-II

3. A-II, B-IV, C-I, D-III

4. A-I, B-II, C-III, D-IV

**Options :**

485584149489. 1

485584149490. 2

485584149491. 3

485584149492. 4

Question Number : 679 Question Id : 48558437374 Question Type : MCQ Option Shuffling : No Is Question Mandatory : No Calculator : None Response Time : N.A Think Time : N.A Minimum Instruction Time : 0

Correct Marks : 5 Wrong Marks : 1

Question Key Details :

Key	Value
Comprehension	MCQ

Receiver of signal in communication system is made up of following components. Receiving Antenna, Amplifier, Detector, Amplifier, IF stage. The correct sequence of the components is:

- Receiving Antenna, Amplifier, Detector, IF stage
- Amplifier, Receiving Antenna, IF stage, Detector, Amplifier.
- Receiving Antenna, Amplifier, IF stage, Detector, Amplifier.
- IF stage, Detector, Receiving Antenna, Amplifier.
- IF stage, Amplifier, Receiving antenna, Detector, Amplifier.

Choose the correct answer from the options given below:

1. A

2. B

3. C

4. D, E

**Options :**

485584149493. 1  
 485584149494. 2  
 485584149495. 3  
 485584149496. 4

**Question Number : 679 Question Id : 48558437374 Question Type : MCQ Option Shuffling : No Is Question Mandatory : No Calculator : None Response Time : N.A Think Time : N.A Minimum Instruction Time : 0**

**Correct Marks : 5 Wrong Marks : 1**

**Question Key Details :**

Key	Value
Comprehension	MCQ

संचार प्रणाली सिग्नल का रिसेीवर निम्नलिखित उपकरणों से बना होता है- ग्राही एंटीना, एम्प्लीफायर, डिटेक्टर, एम्प्लीफायर, IF स्टेज, उपकरणों का सही क्रम है-

- ग्राही एंटीना, एम्प्लीफायर, डिटेक्टर, IF स्टेज
- एम्प्लीफायर, ग्राही एंटीना, IF स्टेज, डिटेक्टर, एम्प्लीफायर
- ग्राही एंटीना, एम्प्लीफायर, IF स्टेज, डिटेक्टर, एम्प्लीफायर
- IF स्टेज, डिटेक्टर, ग्राही एंटीना, एम्प्लीफायर
- IF स्टेज, एम्प्लीफायर, ग्राही एंटीना, डिटेक्टर, एम्प्लीफायर

नीचे दिए गए विकल्पों में से सही उत्तर का चयन कीजिए:

- A
- B
- C
- D, E

**Options :**

485584149493. 1  
 485584149494. 2  
 485584149495. 3  
 485584149496. 4

**Question Number : 680 Question Id : 48558437375 Question Type : MCQ Option Shuffling : No Is Question Mandatory : No Calculator : None Response Time : N.A Think Time : N.A Minimum Instruction Time : 0**

**Correct Marks : 5 Wrong Marks : 1**

**Question Key Details :**

Key	Value
Comprehension	MCQ

The frequencies of two sides band in an AM wave are 780 kHz and 800 kHz respectively. The bandwidth required for amplitude modulation is:

- 1580 kHz
- 790 kHz
- 20 kHz
- 10 kHz

**Options :**

485584149497. 1  
 485584149498. 2  
 485584149499. 3  
 485584149500. 4

Question Number : 680 Question Id : 48558437375 Question Type : MCQ Option Shuffling : No Is Question Mandatory : No Calculator : None  
Response Time : N.A Think Time : N.A Minimum Instruction Time : 0  
Correct Marks : 5 Wrong Marks : 1

**Question Key Details :**

Key	Value
Comprehension	MCQ

AM तरंगों में दो पार्श्व बैंडों की आवृत्ति क्रमशः 780 kHz एवं 800 kHz है। आयाम मॉड्युलनके लिए आवश्यक बैंडविड्थ होगी-

1. 1580 kHz
2. 790 kHz
3. 20 kHz
4. 10 kHz

**Options :**

485584149497. 1  
485584149498. 2  
485584149499. 3  
485584149500. 4

Question Number : 681 Question Id : 48558437376 Question Type : MCQ Option Shuffling : No Is Question Mandatory : No Calculator : None  
Response Time : N.A Think Time : N.A Minimum Instruction Time : 0  
Correct Marks : 5 Wrong Marks : 1

**Question Key Details :**

Key	Value
Comprehension	MCQ

Loss of power in a transformer can be reduced by :

- A. Increasing the number of turns in primary.
- B. Using a laminated core of soft iron.
- C. Preventing the loss of leakage of magnetic flux.
- D. Using a suitable magnetic material which has low hysteresis loss
- E. Using a solid core made of steel.

Choose the correct answer from the options given below:

1. A, B and C only
2. B, C and D only
3. A, C and E only
4. C, D and E only

**Options :**

485584149501. 1  
485584149502. 2  
485584149503. 3  
485584149504. 4

Question Number : 681 Question Id : 48558437376 Question Type : MCQ Option Shuffling : No Is Question Mandatory : No Calculator : None  
Response Time : N.A Think Time : N.A Minimum Instruction Time : 0  
Correct Marks : 5 Wrong Marks : 1

**Question Key Details :**

Key	Value
Comprehension	MCQ

ट्रांसफारमर में शक्ति क्षय को कम किया जा सकता है

- A. प्राथमिक कुण्डली में फेरों की संख्या बढ़ाकर
- B. मृदुलोहे के पटलित कोर का प्रयोग करके
- C. चुम्बकीय फ्लक्स के क्षरण को रोककर
- D. उपयुक्त चुम्बकीय पदार्थ, जिसका शैथिल्य ह्रास कम हो, का प्रयोग
- E. स्टील से बनी हुई ठोस कोर का प्रयोग करके

नीचे दिए गए विकल्पों में से सही उत्तर का चयन कीजिए-

- 1. केवल A, B और C
- 2. केवल B, C और D
- 3. केवल A, C और E
- 4. केवल C, D और E

**Options :**

485584149501. 1

485584149502. 2

485584149503. 3

485584149504. 4

**Question Number : 682 Question Id : 48558437377 Question Type : MCQ Option Shuffling : No Is Question Mandatory : No Calculator : None Response Time : N.A Think Time : N.A Minimum Instruction Time : 0**

**Correct Marks : 5 Wrong Marks : 1**

**Question Key Details :**

Key	Value
Comprehension	MCQ

An equilateral prism produces a minimum deviation of  $30^\circ$ . The angle of incidence would be :

- 1.  $30^\circ$
- 2.  $45^\circ$
- 3.  $60^\circ$
- 4.  $90^\circ$

**Options :**

485584149505. 1

485584149506. 2

485584149507. 3

485584149508. 4

**Question Number : 682 Question Id : 48558437377 Question Type : MCQ Option Shuffling : No Is Question Mandatory : No Calculator : None Response Time : N.A Think Time : N.A Minimum Instruction Time : 0**

**Correct Marks : 5 Wrong Marks : 1**

**Question Key Details :**

Key	Value
Comprehension	MCQ

एक समबाहु त्रिज्या  $30^\circ$  का न्यूनतम विचलन उत्पन्न करता है। आपतित कोण होगा:

1.  $30^\circ$
2.  $45^\circ$
3.  $60^\circ$
4.  $90^\circ$

Options :

485584149505. 1  
 485584149506. 2  
 485584149507. 3  
 485584149508. 4

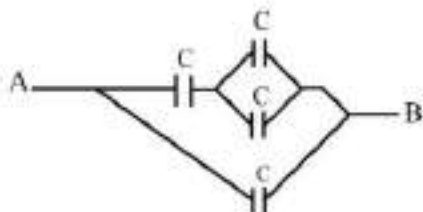
Question Number : 683 Question Id : 48558437378 Question Type : MCQ Option Shuffling : No Is Question Mandatory : No Calculator : None  
 Response Time : N.A Think Time : N.A Minimum Instruction Time : 0

Correct Marks : 5 Wrong Marks : 1

Question Key Details :

Key	Value
Comprehension	MCQ

Four equal capacitors, each of capacity  $C = 12 \mu\text{F}$  are arranged as shown in the figure. What will be the effective capacitance between A and B.



1.  $7.5 \mu\text{F}$
2.  $12 \mu\text{F}$
3.  $20 \mu\text{F}$
4.  $7.2 \mu\text{F}$

Options :

485584149509. 1  
 485584149510. 2  
 485584149511. 3  
 485584149512. 4

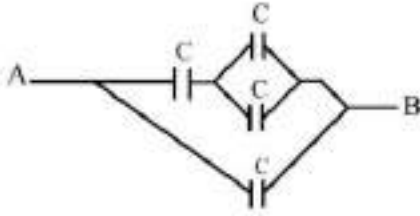
Question Number : 683 Question Id : 48558437378 Question Type : MCQ Option Shuffling : No Is Question Mandatory : No Calculator : None  
 Response Time : N.A Think Time : N.A Minimum Instruction Time : 0

Correct Marks : 5 Wrong Marks : 1

Question Key Details :

Key	Value
Comprehension	MCQ

चार एक समान संधारित्र,  $C = 12 \mu\text{F}$  धारिता वाले नीचे दिए गए चित्रानुसार व्यवस्थित हैं। A एवं B के मध्य प्रभावी धारिता होगी-



1.  $7.5 \mu\text{F}$
2.  $12 \mu\text{F}$
3.  $20 \mu\text{F}$
4.  $7.2 \mu\text{F}$

**Options :**

485584149509. 1  
 485584149510. 2  
 485584149511. 3  
 485584149512. 4

Question Number : 684 Question Id : 48558437379 Question Type : MCQ Option Shuffling : No Is Question Mandatory : No Calculator : None Response Time : N.A Think Time : N.A Minimum Instruction Time : 0

Correct Marks : 5 Wrong Marks : 1

Question Key Details :

Key	Value
Comprehension	MCQ

A convex lens has 15 cm focal length in air. What is its focal length in water ? (Given refractive index of air-water = 1.33, refractive index for air-glass = 1.5)

1. 58.7 cm
2. 33.2 cm
3. 78.2 cm
4. 44.1 cm

**Options :**

485584149513. 1  
 485584149514. 2  
 485584149515. 3  
 485584149516. 4

Question Number : 684 Question Id : 48558437379 Question Type : MCQ Option Shuffling : No Is Question Mandatory : No Calculator : None Response Time : N.A Think Time : N.A Minimum Instruction Time : 0

Correct Marks : 5 Wrong Marks : 1

Question Key Details :

Key	Value
Comprehension	MCQ



एक उत्तल लेंस की वायु में फोकल दूरी 15 cm है। पानी में इसकी फोकल दूरी होगी? (दिया है वायु-पानी का अपवर्तनांक = 1.33, वायु-कॉच का अपवर्तनांक = 1.5)

1. 58.7 cm
2. 33.2 cm
3. 78.2 cm
4. 44.1 cm

Options :

485584149513. 1
485584149514. 2
485584149515. 3
485584149516. 4

Question Number : 685 Question Id : 48558437380 Question Type : MCQ Option Shuffling : No Is Question Mandatory : No Calculator : None Response Time : N.A Think Time : N.A Minimum Instruction Time : 0

Correct Marks : 5 Wrong Marks : 1

Question Key Details :

Key	Value
Comprehension	MCQ

Light corresponding to the transition,  $n = 4$  to  $n = 2$  in hydrogen atoms falls on cesium metal (work function = 1.9 eV). The maximum kinetic energy of the photoelectrons emitted would be :

1. 0.65 eV
2. 0.8 eV
3. 3.8 eV
4. 1.52 eV

Options :

485584149517. 1
485584149518. 2
485584149519. 3
485584149520. 4

Question Number : 685 Question Id : 48558437380 Question Type : MCQ Option Shuffling : No Is Question Mandatory : No Calculator : None Response Time : N.A Think Time : N.A Minimum Instruction Time : 0

Correct Marks : 5 Wrong Marks : 1

Question Key Details :

Key	Value
Comprehension	MCQ

हाइड्रोजन परमाणु में,  $n = 4$  से  $n = 2$  के मध्य प्रकाश संक्रमण सीजियम में धातु (कार्य फलन = 1.9 eV) के अंतर्गत आता है। उत्सर्जित प्रकाश इलेक्ट्रॉन की अधिकतम गतिज ऊर्जा होगी-

1. 0.65 eV
2. 0.8 eV
3. 3.8 eV
4. 1.52 eV

Options :

485584149517. 1
485584149518. 2
485584149519. 3

**Nepali**

Group Number :	14
Group Id :	485584863
Group Maximum Duration :	45
Group Minimum Duration :	45
Show Attended Group? :	No
Edit Attended Group? :	No
Break time :	0
Group Marks :	200
Is this Group for Examiner? :	No
Examiner permission :	Cant View
Show Progress Bar? :	No

**Nepali**

Section Id :	485584993
Section Number :	1
Section type :	Online
Mandatory or Optional :	Mandatory
Number of Questions :	50
Number of Questions to be attempted :	40
Section Marks :	200
Enable Mark as Answered Mark for Review and Clear Response :	Yes
Maximum Instruction Time :	0
Sub-Section Number :	1
Sub-Section Id :	4855842827
Question Shuffling Allowed :	No
Is Section Default? :	null

Question Number : 686 Question Id : 48558437281 Question Type : MCQ Option Shuffling : No Is Question Mandatory : No Calculator : None  
 Response Time : N.A Think Time : N.A Minimum Instruction Time : 0  
 Correct Marks : 5 Wrong Marks : 1  
 Question Key Details :

Key	Value
Comprehension	Comp1

तरलको अनुच्छेद पढेर सोधिएका प्रश्नहरूको उत्तर सही विकल्प छानेर दिनुहोस्।

संस्कृतमा लेखिएका 'वैतालपञ्चविंशतिका' र 'सिंहासन द्वात्रिंशतिका' जस्ता कथाका संकलनलाई नेपालीमा 'वैतालपञ्चीसी' र 'सिंहासनबत्तीसी' -का रूपमा अनूदित र प्रकाशित गरिएको छ। अधिल्लामा 25 र पछिल्लामा 32 कथाहरू छन्। शिवदासरचित 'कथार्णव'-मा 35 ओटा कथाहरूको संकलन छ। यस्तै किसिमले विद्यापतिको 'पुरुष परीक्षा' बल्लालसेनको 'भोजप्रबन्ध' पनि कथाका कृति हुन्। संस्कृत साहित्यमा कथा र आख्यायिकामा भिन्नता देखाई कथालाई बाणको 'कादम्बरी' जस्तो कविकल्पनाप्रसूत र आख्यायिकालाई 'हर्षचरित' जस्तो ऐतिहासिक तथ्यमा आधारित भनी छुट्ट्याइएको छ। आनन्दवर्द्धनले त परीकथा, सकलकथा र खण्डकथा भनी कथाको विभाजन पनि गरेको पाइन्छ। पालि र प्राकृत भाषाहरूमा पनि कथाहरू रचित पाइन्छ। पालिमा लेखिएका 550 कथाहरू जातक कथाका रूपमा प्रसिद्ध छन् भने संस्कृत भाषामा पनि बौद्ध र जैन संस्कृतिसँग सम्बद्ध कथाहरू छन्।

'सिंहासनबत्तीसी' मा कतिवटा कथाहरू सङ्कलित छन्?

1. 25 वटा
2. 32 वटा
3. 35 वटा
4. 23 वटा

Options :

485584149121. 1
485584149122. 2
485584149123. 3
485584149124. 4

Question Number : 687 Question Id : 48558437282 Question Type : MCQ Option Shuffling : No Is Question Mandatory : No Calculator : None  
Response Time : N.A Think Time : N.A Minimum Instruction Time : 0  
Correct Marks : 5 Wrong Marks : 1

Question Key Details :

Key	Value
Comprehension	Comp1

तलको अनुच्छेद पढेर सोधिएका प्रश्नहरूको उत्तर सही विकल्प छानेर दिनुहोस्।

संस्कृतमा लेखिएका 'वैतालपञ्चविंशतिका' र 'सिंहासन द्वात्रिंशतिका' जस्ता कथाका संकलनलाई नेपालीमा 'वैतालपच्चीसी' र 'सिंहासनबत्तीसी' -का रूपमा अनूदित र प्रकाशित गरिएको छ। अधिल्लामा 25 र पछिल्लामा 32 कथाहरू छन्। शिवदासरचित 'कथार्णव'-मा 35 ओटा कथाहरूको सङ्कलन छ। यस्तै किसिमले विद्यापतिको 'पुरुष परीक्षा' बल्लालसेनको 'भोजप्रबन्ध' पनि कथाका कृति हुन्। संस्कृत साहित्यमा कथा र आख्यायिकामा भिन्नता देखाई कथालाई बाणको 'कादम्बरी' जस्तो कविकल्पनाप्रसूत र आख्यायिकालाई 'हर्षचरित' जस्तो ऐतिहासिक तथ्यमा आधारित भनी छुट्ट्याइएको छ। आनन्दवर्द्धनले त परीकथा, सकलकथा र खण्डकथा भनी कथाको विभाजन पनि गरेको पाइन्छ। पालि र प्राकृत भाषाहरूमा पनि कथाहरू रचित पाइन्छ। पालिमा लेखिएका 550 कथाहरू ज्ञातक कथाका रूपमा प्रसिद्ध छन् भने संस्कृत भाषामा पनि बौद्ध र जैन संस्कृतिसँग सम्बद्ध कथाहरू छन्।

बाणको 'कादम्बरी' कुन विधाअन्तर्गत पर्छ?

1. आख्यायिका
2. काव्य
3. कथा
4. नाटक

Options :

485584149125. 1
485584149126. 2
485584149127. 3
485584149128. 4

Question Number : 688 Question Id : 48558437283 Question Type : MCQ Option Shuffling : No Is Question Mandatory : No Calculator : None  
Response Time : N.A Think Time : N.A Minimum Instruction Time : 0  
Correct Marks : 5 Wrong Marks : 1

Question Key Details :

Key	Value
Comprehension	Comp1

तलको अनुच्छेद पढेर सोधिएका प्रश्नहरूको उत्तर सही विकल्प छानेर दिनुहोस्।

संस्कृतमा लेखिएका 'वैतालपञ्चविंशतिका' र 'सिंहासन द्वात्रिंशतिका' जस्ता कथाका संकलनलाई नेपालीमा 'बैतालपञ्चीसी' र 'सिंहासनबत्तीसी' -का रूपमा अनूदित र प्रकाशित गरिएको छ। अधिल्लामा 25 र पछिल्लामा 32 कथाहरू छन्। शिवदासरचित 'कथार्णव'-मा 35 ओटा कथाहरूको सङ्कलन छ। यस्तै किसिमले विद्यापतिको 'पुरुष परीक्षा' बल्लालसेनको 'भोजप्रबन्ध' पनि कथाका कृति हुन्। संस्कृत साहित्यमा कथा र आख्यायिकामा भिन्नता देखाई कथालाई बाणको 'कादम्बरी' जस्तो कविकल्पनाप्रसूत र आख्यायिकालाई 'हर्षचरित' जस्तो ऐतिहासिक तथ्यमा आधारित भनी छुट्ट्याइएको छ। आनन्दवर्द्धनले त परीकथा, सकलकथा र खण्डकथा भनी कथाको विभाजन पनि गरेको पाइन्छ। पालि र प्राकृत भाषाहरूमा पनि कथाहरू रचित पाइन्छ। पालिमा लेखिएका 550 कथाहरू जातक कथाका रूपमा प्रसिद्ध छन् भने संस्कृत भाषामा पनि बौद्ध र जैन संस्कृतिसँग सम्बद्ध कथाहरू छन्।

ऐतिहासिक तथ्यमा आधारित रचना कुन हो?

1. हर्षचरित
2. कादम्बरी
3. पुरुष परीक्षा
4. भोजप्रबन्ध

Options :

485584149129. 1  
485584149130. 2  
485584149131. 3  
485584149132. 4

Question Number : 689 Question Id : 48558437284 Question Type : MCQ Option Shuffling : No Is Question Mandatory : No Calculator : None Response Time : N.A Think Time : N.A Minimum Instruction Time : 0

Correct Marks : 5 Wrong Marks : 1

Question Key Details :

Key	Value
Comprehension	Comp1

तलको अनुच्छेद पढेर सोधिएका प्रश्नहरूको उत्तर सही विकल्प छानेर दिनुहोस्।

संस्कृतमा लेखिएका 'वैतालपञ्चविंशतिका' र 'सिंहासन द्वात्रिंशतिका' जस्ता कथाका संकलनलाई नेपालीमा 'बैतालपञ्चीसी' र 'सिंहासनबत्तीसी' -का रूपमा अनूदित र प्रकाशित गरिएको छ। अधिल्लामा 25 र पछिल्लामा 32 कथाहरू छन्। शिवदासरचित 'कथार्णव'-मा 35 ओटा कथाहरूको सङ्कलन छ। यस्तै किसिमले विद्यापतिको 'पुरुष परीक्षा' बल्लालसेनको 'भोजप्रबन्ध' पनि कथाका कृति हुन्। संस्कृत साहित्यमा कथा र आख्यायिकामा भिन्नता देखाई कथालाई बाणको 'कादम्बरी' जस्तो कविकल्पनाप्रसूत र आख्यायिकालाई 'हर्षचरित' जस्तो ऐतिहासिक तथ्यमा आधारित भनी छुट्ट्याइएको छ। आनन्दवर्द्धनले त परीकथा, सकलकथा र खण्डकथा भनी कथाको विभाजन पनि गरेको पाइन्छ। पालि र प्राकृत भाषाहरूमा पनि कथाहरू रचित पाइन्छ। पालिमा लेखिएका 550 कथाहरू जातक कथाका रूपमा प्रसिद्ध छन् भने संस्कृत भाषामा पनि बौद्ध र जैन संस्कृतिसँग सम्बद्ध कथाहरू छन्।

पालि भाषामा लेखिएका कथाहरूलाई के भनिन्छ?

1. लोककथा
2. परीकथा
3. जातक कथा
4. खण्डकथा

Options :

485584149133. 1  
485584149134. 2  
485584149135. 3  
485584149136. 4

Question Number : 690 Question Id : 48558437285 Question Type : MCQ Option Shuffling : No Is Question Mandatory : No Calculator : None  
Response Time : N.A Think Time : N.A Minimum Instruction Time : 0  
Correct Marks : 5 Wrong Marks : 1

**Question Key Details :**

Key	Value
Comprehension	Comp1

तलको अनुच्छेद पढेर सोधिएका प्रश्नहरूको उत्तर सही विकल्प छानेर दिनुहोस्।

संस्कृतमा लेखिएका 'वैतालपञ्चविंशतिका' र 'सिंहासन द्वात्रिंशतिका' जस्ता कथाका संकलनलाई नेपालीमा 'वैतालपञ्चीसी' र 'सिंहासनबत्तीसी' -का रूपमा अनूदित र प्रकाशित गरिएको छ। अघिल्लामा 25 र पछिल्लामा 32 कथाहरू छन्। शिवदासरचित 'कथार्णव'-मा 35 ओटा कथाहरूको सङ्कलन छ। यस्तो किसिमले विद्यापतिको 'पुरुष परीक्षा' बल्लालसेनको 'भोजप्रबन्ध' पनि कथाका कृति हुन्। संस्कृत साहित्यमा कथा र आख्यायिकामा भिन्नता देखाई कथालाई बाणको 'कादम्बरी' जस्तो कविकल्पनाप्रसूत र आख्यायिकालाई 'हर्षचरित' जस्तो ऐतिहासिक तथ्यमा आधारित भनी छुट्ट्याइएको छ। आनन्दवर्द्धनले त परीकथा, सकलकथा र खण्डकथा भनी कथाको विभाजन पनि गरेको पाइन्छ। पालि र प्राकृत भाषाहरूमा पनि कथाहरू रचित पाइन्छ। पालिमा लेखिएका 550 कथाहरू जातक कथाका रूपमा प्रसिद्ध छन् भने संस्कृत भाषामा पनि बौद्ध र जैन संस्कृतिसँग सम्बद्ध कथाहरू छन्।

बौद्ध र जैन संस्कृतिसँग सम्बद्ध कथाहरू कुन भाषामा लेखिएका छन् ?

1. पालि
2. प्राकृत
3. नेपाली
4. संस्कृत

**Options :**

485584149137. 1  
485584149138. 2  
485584149139. 3  
485584149140. 4

Question Number : 691 Question Id : 48558437286 Question Type : MCQ Option Shuffling : No Is Question Mandatory : No Calculator : None  
Response Time : N.A Think Time : N.A Minimum Instruction Time : 0  
Correct Marks : 5 Wrong Marks : 1

**Question Key Details :**

Key	Value
Comprehension	Comp1

तलको अनुच्छेद पढेर सोधिएका प्रश्नहरूको उत्तर सही विकल्प छानेर दिनुहोस्।

संस्कृतमा लेखिएका 'वैतालपञ्चविंशतिका' र 'सिंहासन द्वात्रिंशतिका' जस्ता कथाका संकलनलाई नेपालीमा 'वैतालपञ्चीसी' र 'सिंहासनबत्तीसी' -का रूपमा अनूदित र प्रकाशित गरिएको छ। अघिल्लामा 25 र पछिल्लामा 32 कथाहरू छन्। शिवदासरचित 'कथार्णव'-मा 35 ओटा कथाहरूको सङ्कलन छ। यस्तो किसिमले विद्यापतिको 'पुरुष परीक्षा' बल्लालसेनको 'भोजप्रबन्ध' पनि कथाका कृति हुन्। संस्कृत साहित्यमा कथा र आख्यायिकामा भिन्नता देखाई कथालाई बाणको 'कादम्बरी' जस्तो कविकल्पनाप्रसूत र आख्यायिकालाई 'हर्षचरित' जस्तो ऐतिहासिक तथ्यमा आधारित भनी छुट्ट्याइएको छ। आनन्दवर्द्धनले त परीकथा, सकलकथा र खण्डकथा भनी कथाको विभाजन पनि गरेको पाइन्छ। पालि र प्राकृत भाषाहरूमा पनि कथाहरू रचित पाइन्छ। पालिमा लेखिएका 550 कथाहरू जातक कथाका रूपमा प्रसिद्ध छन् भने संस्कृत भाषामा पनि बौद्ध र जैन संस्कृतिसँग सम्बद्ध कथाहरू छन्।

कथालाई तीनवटा खण्डमा विभाजन गर्ने अधोताको नाम के हो?

1. आनन्दवर्द्धन
2. शिवदास
3. विद्यापति
4. बल्लालसेन

Options :

485584149141. 1  
485584149142. 2  
485584149143. 3  
485584149144. 4

Question Number : 692 Question Id : 48558437287 Question Type : MCQ Option Shuffling : No Is Question Mandatory : No Calculator : None  
Response Time : N.A Think Time : N.A Minimum Instruction Time : 0

Correct Marks : 5 Wrong Marks : 1

Question Key Details :

Key	Value
Comprehension	Comp1

तलको अनुच्छेद पढेर सोधिएका प्रश्नहरूको उत्तर सही विकल्प छानेर दिनुहोस्।

संस्कृतमा लेखिएका 'बैतालपञ्चविंशतिका' र 'सिंहासन द्वात्रिंशतिका' जस्ता कथाका संकलनलाई नेपालीमा 'बैतालपच्चीसी' र 'सिंहासनबत्तीसी' -का रूपमा अनूदित र प्रकाशित गरिएको छ। अधिल्लामा 25 र पछिल्लामा 32 कथाहरू छन्। शिवदासरचित 'कथार्णव'-मा 35 ओटा कथाहरूको सङ्कलन छ। यस्तै किसिमले विद्यापतिको 'पुरुष परीक्षा' बल्लालसेनको 'भोजप्रबन्ध' पनि कथाका कृति हुन्। संस्कृत साहित्यमा कथा र आख्यायिकामा भिन्नता देखाई कथालाई बाणको 'कादम्बरी' जस्तो कविकल्पनाप्रसूत र आख्यायिकालाई 'हर्षचरित' जस्तो ऐतिहासिक तथ्यमा आधारित भनी छुट्ट्याइएको छ। आनन्दवर्द्धनले त परीकथा, सकलकथा र खण्डकथा भनी कथाको विभाजन पनि गरेको पाइन्छ। पालि र प्राकृत भाषाहरूमा पनि कथाहरू रचित पाइन्छ। पालिमा लेखिएका 550 कथाहरू जातक कथाका रूपमा प्रसिद्ध छन् भने संस्कृत भाषामा पनि बौद्ध र जैन संस्कृतिसँग सम्बद्ध कथाहरू छन्।

'बैतालपच्चीसी' कुन भाषामा अनुवाद भएको छ?

1. नेपाली
2. पालि
3. संस्कृत
4. प्राकृत

Options :

485584149145. 1  
485584149146. 2  
485584149147. 3  
485584149148. 4

Sub-Section Number :

2

Sub-Section Id :

4855842828

Question Shuffling Allowed :

No

Is Section Default? :

null

Question Number : 693 Question Id : 48558437288 Question Type : MCQ Option Shuffling : No Is Question Mandatory : No Calculator : None  
Response Time : N.A Think Time : N.A Minimum Instruction Time : 0

Correct Marks : 5 Wrong Marks : 1

Question Key Details :

Key	Value
Comprehension	Comp2

तलको अनुच्छेद पढेर सोधिएका प्रश्नहरूको उत्तर सही विकल्प छानेर दिनुहोस्।

ग्याजुएटका निमित्त कृष्णजी पुराना कथाका राजा हुन्छन्। भागवत सच्चा हुँदैन, व्यास ठग बन्दछन्, पशुपतिनाथ बुद्धा हुन्छन्, हेज्लिन चन्दन बन्दछ, गोलभेंडा पथ्य बन्दछ, मनुष्य अत्याचारी हुन्छन्, पुराणहरू चलाकी तसविट बन्दछन्, स्वर्ग शून्य हुन्छ, यमराज गफ बन्दछन् र वेदको सत्यता हराउँछ र पुर्खाहरू मूर्ख बन्दछन्। हामीहरू ग्याजुएट भएर पनि कति जान्दछौं? नदीबाट पानी उभाउन गएको ठिटो आफ्नै भौँठामा जुबेर मरे जस्तो उखान छ। धेरैजना अंग्रेजी बोल्न थाराउँछन्, लेख्न परे रहोस्। परीक्षाको सुगलाई सरस्वतीले खालि यन्त्रप्रवृत्तिले छोकेका कुरा दोहो-याउन लगाउँछिन्। हामीले परीक्षा - बेटकबाट बाहिर निस्कनासाथ ज्ञानको टुङ्गो पुग्दछ र नवीन प्राप्ति र नवीन अन्वेषणको ऐँडी खतम हुन्छ। हामी मरीच झैं चाउरिन्छौं र सुक्छा बन्दछौं अनि जीवन- छठी, हप्कावट र धूर्तता बन्न सक्छ। तर त्यही अंग्रेजीमा नून छ, यहाँ केटाकेटीको मुखलाई पापा- चीची छ। यहाँ भारतको बीसौं शताब्दी छ, यहाँ आधुनिक आँखा छ, यहाँ पराराष्ट्र सम्बन्धहरू छन्, यहाँ अन्तर्राष्ट्रिय बहस छ, यहाँ भारतीय अदालत छन्। यहाँ सूर्य अस्ताउँदैनन्, यहाँ रवाफ र आउ छ। यहाँ हाम्रो दैनिक जीवन छ। यो अंग्रेजीमा के छैन?

अनुच्छेदको मूल विषय के हो?

1. अंग्रेजी शिक्षाको गुणगान
2. अंग्रेजी शिक्षाको आवश्यकता
3. अंग्रेजी शिक्षाको सही उपयोगिता नभएको निन्दा
4. अंग्रेजी शिक्षाको स्थिति

Options :

485584149149. 1

485584149150. 2

485584149151. 3

485584149152. 4

Question Number : 694 Question Id : 48558437289 Question Type : MCQ Option Shuffling : No Is Question Mandatory : No Calculator : None Response Time : N.A Think Time : N.A Minimum Instruction Time : 0

Correct Marks : 5 Wrong Marks : 1

Question Key Details :

Key	Value
Comprehension	Comp2

तलको अनुच्छेद पढेर सोधिएका प्रश्नहरूको उत्तर सही विकल्प छानेर दिनुहोस्।

ग्याजुएटका निमित्त कृष्णजी पुराना कथाका राजा हुन्छन्। भागवत सच्चा हुँदैन, व्यास ठग बन्दछन्, पशुपतिनाथ बुद्धा हुन्छन्, हेज्लिन चन्दन बन्दछ, गोलभेंडा पथ्य बन्दछ, मनुष्य अत्याचारी हुन्छन्, पुराणहरू चलाकी तसविट बन्दछन्, स्वर्ग शून्य हुन्छ, यमराज गफ बन्दछन् र वेदको सत्यता हराउँछ र पुर्खाहरू मूर्ख बन्दछन्। हामीहरू ग्याजुएट भएर पनि कति जान्दछौं? नदीबाट पानी उभाउन गएको ठिटो आफ्नै भौँठामा जुबेर मरे जस्तो उखान छ। धेरैजना अंग्रेजी बोल्न थाराउँछन्, लेख्न परे रहोस्। परीक्षाको सुगलाई सरस्वतीले खालि यन्त्रप्रवृत्तिले छोकेका कुरा दोहो-याउन लगाउँछिन्। हामीले परीक्षा - बेटकबाट बाहिर निस्कनासाथ ज्ञानको टुङ्गो पुग्दछ र नवीन प्राप्ति र नवीन अन्वेषणको ऐँडी खतम हुन्छ। हामी मरीच झैं चाउरिन्छौं र सुक्छा बन्दछौं अनि जीवन- छठी, हप्कावट र धूर्तता बन्न सक्छ। तर त्यही अंग्रेजीमा नून छ, यहाँ केटाकेटीको मुखलाई पापा- चीची छ। यहाँ भारतको बीसौं शताब्दी छ, यहाँ आधुनिक आँखा छ, यहाँ पराराष्ट्र सम्बन्धहरू छन्, यहाँ अन्तर्राष्ट्रिय बहस छ, यहाँ भारतीय अदालत छन्। यहाँ सूर्य अस्ताउँदैनन्, यहाँ रवाफ र आउ छ। यहाँ हाम्रो दैनिक जीवन छ। यो अंग्रेजीमा के छैन?

नदीबाट पानी उभाउन गएको ठिटो आफ्नै भाँडामा जुबेर मरे जस्तो उखान छ भनेर कोप्रति व्यंग्य गरिएको छ?

1. अंग्रेजी शिक्षा लिएर असफल बनेका प्रति
2. अंग्रेजी पढेर बेकारी भएका प्रति
3. अंग्रेजी पढेर आर्य संस्कृतिको अवहेलना गर्ने प्रति
4. अंग्रेजी पढेर सफल भएका प्रति

Options :

485584149153. 1  
485584149154. 2  
485584149155. 3  
485584149156. 4

Question Number : 695 Question Id : 48558437290 Question Type : MCQ Option Shuffling : No Is Question Mandatory : No Calculator : None  
Response Time : N.A Think Time : N.A Minimum Instruction Time : 0

Correct Marks : 5 Wrong Marks : 1

Question Key Details :

Key	Value
Comprehension	Comp2

तलको अनुच्छेद पढेर सोधिएका प्रश्नहरूको उत्तर सही विकल्प छानेर दिनुहोस्।

ग्याजुएटका निमित्त कृष्णजी पुराना कथाका राजा हुन्छन्। भागवत सच्चा हुँदैन, व्यास ठग बन्दछन्, पशुपतिनाथ बुझा हुन्छन्, हेज्लिन चन्दन बन्दछ, गोलभेंडा पथ्य बन्दछ, मनुष्य अत्याचारी हुन्छन्, पुराणहरू चलाकी तसवित बन्दछन्, स्वर्ग शून्य हुन्छ, यमराज गफ बन्दछन् र वेदको सत्यता हराउँछ र पुर्खाहरू मूर्ख बन्दछन्। हामीहरू ग्याजुएट भएर पनि कति जान्दछौं? नदीबाट पानी उभाउन गएको ठिटो आफ्नै भाँडामा जुबेर मरे जस्तो उखान छ। धेरैजना अंग्रेजी बोल्न उराउँछन्, लेख्न परे रहोस। परीक्षाको सुगलाई सरस्वतीले खालि यन्त्रप्रवृत्तिले छोकेका कुरा बोहो-न्याउन लगार्छिन्। हामीले परीक्षा - बेटकबाट बाहिर निस्कनासाथ ज्ञानको टुङ्गो पुग्दछ र नवीन प्राप्ति र नवीन अन्वेषणको पैँडी खतम हुन्छ। हामी मरीच झैँ चाउरिन्छौं र सुक्खा बन्दछौं अनि जीवन- छडी, टप्कावट र धूर्तता बन्न सक्छ। तर त्यही अंग्रेजीमा नून छ, यही केटाकेटीको मुखलाई पापा- चीची छ। यही भारतको बीसौं शताब्दी छ, यही आधुनिक आँखा छ, यही परराष्ट्र सम्बन्धहरू छन्, यही अन्तर्राष्ट्रिय बहस छ, यही भारतीय अदालत छन्। यही सूर्य अस्ताउँदैन, यही रवाफ र आत छ। यही हाम्रो दैनिक जीवन छ। यो अंग्रेजीमा के छैन?

'सुगा' को पर्यायवाची शब्दहरू के के हुन्?

1. शुक, द्वीज, कीर, दाडिमप्रिय
2. दाडिमप्रिय, शुक, तुंड, कीर
3. कीर, काग, शुक, तुंड
4. तुंड, दाडिमप्रिय, शुक, पिक

Options :

485584149157. 1  
485584149158. 2  
485584149159. 3  
485584149160. 4

Question Number : 696 Question Id : 48558437291 Question Type : MCQ Option Shuffling : No Is Question Mandatory : No Calculator : None  
Response Time : N.A Think Time : N.A Minimum Instruction Time : 0

Correct Marks : 5 Wrong Marks : 1

Question Key Details :

Key	Value
-----	-------



तलको अनुच्छेद पढेर सोधिएका प्रश्नहरूको उत्तर सही विकल्प छानेर दिनुहोस्।

ग्याजुएटका निमित्त कृष्णजी पुराना कथाका राजा हुन्छन्। भागवत सच्चा हुँदैन, व्यास ठग बन्दछन्, पशुपतिनाथ बुझा हुन्छन्, हेज्लिन चन्दन बन्दछ, गोलभेंडा पथ्य बन्दछ, मनुष्य अत्याचारी हुन्छन्, पुराणहरू चलाकी तसविट बन्दछन्, स्वर्ग शून्य हुन्छ, यमराज गफ बन्दछन् र वेदको सत्यता हराउँछ र पुर्खाहरू मूर्ख बन्दछन्। हामीहरू ग्याजुएट भएर पनि कति जान्दछौं? नदीबाट पानी उभाउन गएको ठिटो आफ्नै भौँठामा जुबेर मरे जस्तो उखान छ। धेरैजना अंग्रेजी बोल्न उराउँछन्, लेख्न परे रहोस्। परीक्षाको सुगलाई सरस्वतीले खालि यन्त्रप्रवृत्तिले घोकेका कुरा दोहो-याउन लगाउँछिन्। हामीले परीक्षा - बेठकबाट बाहिर निस्कनासाथ ज्ञानको टुङ्गो पुग्दछ र नवीन प्राप्ति र नवीन अन्वेषणको ढैंडी खतम हुन्छ। हामी मरीच झैं चाउरिन्छौं र सुक्खा बन्दछौं अनि जीवन- छठी, हप्कावट र धूर्तता बन्न सक्छ। तर त्यही अंग्रेजीमा नून छ, यही केटाकेटीको मुखलाई पापा- चीची छ। यही भारतको बीसौं शताब्दी छ, यही आधुनिक आँखा छ, यही पराराष्ट्र सम्बन्धहरू छन्, यही अन्तर्राष्ट्रिय बहस छ, यही भारतीय अदालत छन्। यही सूर्य अस्ताउँदैनन्, यही रवाफ र आउ छ। यही हाम्रो दैनिक जीवन छ। यो अंग्रेजीमा के छैन?

'हामी मरीच झैं चाउरिन्छौं र सुक्खा बन्दछौं' . यसको तात्पर्य के हो?

1. शारीरिक रूपले कमजोर हुनु
2. मानसिक विकृति आउनु
3. वैचारिक संकीर्णता आउनु
4. बौद्धिक रूपले शिथिल बन्नु

Options :

485584149161. 1

485584149162. 2

485584149163. 3

485584149164. 4

Question Number : 697 Question Id : 48558437292 Question Type : MCQ Option Shuffling : No Is Question Mandatory : No Calculator : None Response Time : N.A Think Time : N.A Minimum Instruction Time : 0

Correct Marks : 5 Wrong Marks : 1

Question Key Details :

Key	Value
Comprehension	Comp2

तलको अनुच्छेद पढेर सोधिएका प्रश्नहरूको उत्तर सही विकल्प छानेर दिनुहोस्।

ग्याजुएटका निमित्त कृष्णजी पुराना कथाका राजा हुन्छन्। भागवत सच्चा हुँदैन, व्यास ठग बन्दछन्, पशुपतिनाथ बुझा हुन्छन्, हेज्लिन चन्दन बन्दछ, गोलभेंडा पथ्य बन्दछ, मनुष्य अत्याचारी हुन्छन्, पुराणहरू चलाकी तसविट बन्दछन्, स्वर्ग शून्य हुन्छ, यमराज गफ बन्दछन् र वेदको सत्यता हराउँछ र पुर्खाहरू मूर्ख बन्दछन्। हामीहरू ग्याजुएट भएर पनि कति जान्दछौं? नदीबाट पानी उभाउन गएको ठिटो आफ्नै भौँठामा जुबेर मरे जस्तो उखान छ। धेरैजना अंग्रेजी बोल्न उराउँछन्, लेख्न परे रहोस्। परीक्षाको सुगलाई सरस्वतीले खालि यन्त्रप्रवृत्तिले घोकेका कुरा दोहो-याउन लगाउँछिन्। हामीले परीक्षा - बेठकबाट बाहिर निस्कनासाथ ज्ञानको टुङ्गो पुग्दछ र नवीन प्राप्ति र नवीन अन्वेषणको ढैंडी खतम हुन्छ। हामी मरीच झैं चाउरिन्छौं र सुक्खा बन्दछौं अनि जीवन- छठी, हप्कावट र धूर्तता बन्न सक्छ। तर त्यही अंग्रेजीमा नून छ, यही केटाकेटीको मुखलाई पापा- चीची छ। यही भारतको बीसौं शताब्दी छ, यही आधुनिक आँखा छ, यही पराराष्ट्र सम्बन्धहरू छन्, यही अन्तर्राष्ट्रिय बहस छ, यही भारतीय अदालत छन्। यही सूर्य अस्ताउँदैनन्, यही रवाफ र आउ छ। यही हाम्रो दैनिक जीवन छ। यो अंग्रेजीमा के छैन?

अंग्रेजी शिक्षाले मानिसलाई (हामीलाई) कस्तो बनाएको छ?

1. यान्त्रिक बनाएको छ
2. सुसंस्कृत बनाएको छ
3. बौद्धिक बनाएको छ
4. मूर्ख बनाएको छ

Options :

485584149165. 1  
485584149166. 2  
485584149167. 3  
485584149168. 4

Question Number : 698 Question Id : 48558437293 Question Type : MCQ Option Shuffling : No Is Question Mandatory : No Calculator : None Response Time : N.A Think Time : N.A Minimum Instruction Time : 0

Correct Marks : 5 Wrong Marks : 1

Question Key Details :

Key	Value
Comprehension	Comp2

तलको अनुच्छेद पढेर सोधिएका प्रश्नहरूको उत्तर सही विकल्प छानेर दिनुहोस्।

ग्याजुएटका निमित्त कृष्णजी पुराना कथाका राजा हुन्छन्। भागवत सच्चा हुँदैन, व्यास ठग बन्दछन्, पशुपतिनाथ बुद्धा हुन्छन्, हेज्लिन चन्दन बन्दछ, गोलभेंडा पथ्य बन्दछ, मनुष्य अत्याचारी हुन्छन्, पुराणहरू चलाकी तसवित बन्दछन्, स्वर्ग शून्य हुन्छ, यमराज गफ बन्दछन् र वेदको सत्यता हराउँछ र पुर्खाहरू मूर्ख बन्दछन्। हामीहरू ग्याजुएट भएर पनि कति जान्दछौं? नदीबाट पानी उभाउन गएको ठिटो आफ्नै भौँठामा जुबेर मरे जस्तो उखान छ। धेरैजना अंग्रेजी बोल्न उराउँछन्, लेख्न परे रहोस। परीक्षाको सुगालाई सरस्वतीले खालि यन्त्रप्रवृत्तिले घोकेका कुरा दोहोर्न्याउन लगाउँछिन्। हामीले परीक्षा - बेठकबाट बाहिर निस्कनासाथ ज्ञानको टुङ्गो पुग्दछ र नवीन प्राप्ति र नवीन अन्वेषणको पैँडी खतम हुन्छ। हामी मरीच झैं चाउरिन्छौं र सुक्खा बन्दछौं अनि जीवन- छठी, हप्कावट र धूर्तता खन्न सक्छ। तर त्यही अंग्रेजीमा नून छ, यहाँ केटाकेटीको मुखलाई पापा- चीची छ। यहाँ भारतको बीसौं शताब्दी छ, यहाँ आधुनिक आँखा छ, यहाँ पराराष्ट्र सम्बन्धहरू छन्, यहाँ अन्तर्राष्ट्रिय बहस छ, यहाँ भारतीय अदालत छन्। यहाँ सूर्य अस्ताउँदैनन्, यहाँ रवाफ र आत छ। यहाँ हाम्रो दैनिक जीवन छ। यो अंग्रेजीमा के छैन?

अन्वेषण ाको अर्थ के हो?

1. अनुसन्धान
2. अनुप्रवेश
3. अनुमति
4. अभिव्यक्ति

Options :

485584149169. 1  
485584149170. 2  
485584149171. 3  
485584149172. 4

Question Number : 699 Question Id : 48558437294 Question Type : MCQ Option Shuffling : No Is Question Mandatory : No Calculator : None Response Time : N.A Think Time : N.A Minimum Instruction Time : 0

Correct Marks : 5 Wrong Marks : 1

Question Key Details :

Key	Value
Comprehension	Comp2

तलको अनुच्छेद पढेर सोधिएका प्रश्नहरूको उत्तर सही विकल्प छानेर दिनुहोस्।

ग्याजुएटका निमित्त कृष्णजी पुराना कथाका राजा हुन्छन्। भागवत सच्चा हुँदैन, व्यास ठग बन्दछन्, पशुपतिनाथ बुद्धा हुन्छन्, हेज्लिन चन्दन बन्दछ, गोलभेंडा पथ्य बन्दछ, मनुष्य अत्याचारी हुन्छन्, पुराणहरू चलाकी तसविट बन्दछन्, स्वर्ग शून्य हुन्छ, यमराज गफ बन्दछन् र वेदको सत्यता हराउँछ र पुर्खाहरू मूर्ख बन्दछन्। हामीहरू ग्याजुएट भएर पनि कति जान्दछौं? नदीबाट पानी उभाउन गएको ठिटो आफ्नै भौँठामा जुबेर मरे जस्तो उखान छ। धेरैजना अंग्रेजी बोल्न ठराउँछन्, लेख्न परे रहोस्। परीक्षाको सुगलाई सरस्वतीले खालि यन्त्रप्रवृत्तिले छोकेका कुरा दोहो-याउन लगाउँछिन्। हामीले परीक्षा - बेठकबाट बाहिर निस्कनासाथ ज्ञानको टुङ्गी पुग्दछ र नवीन प्राप्ति र नवीन अन्वेषणको ऐँडी खतम हुन्छ। हामी मरीच झैं चाउरिन्छौं र सुक्खा बन्दछौं अनि जीवन- छठी, हप्कावट र धूर्तता बन्न सक्छ। तर त्यही अंग्रेजीमा नून छ, यही केटाकेटीको मुखलाई पापा- चीची छ। यही भारतको बीसौं शताब्दी छ, यही आधुनिक आँखा छ, यही पराराष्ट्र सम्बन्धहरू छन्, यही अन्तर्राष्ट्रिय बहस छ, यही भारतीय अदालत छन्। यही सूर्य अस्ताउँदैनन्, यही रवाफ र आउ छ। यही हाम्रो दैनिक जीवन छ। यो अंग्रेजीमा के छैन?

'पथ्य' शब्दको विपरीतार्थक शब्द के हो?

1. सुपाच्य
2. नेपथ्य
3. कथ्य
4. अपथ्य

**Options :**

485584149173. 1  
485584149174. 2  
485584149175. 3  
485584149176. 4

**Sub-Section Number :**

3

**Sub-Section Id :**

4855842829

**Question Shuffling Allowed :**

No

**Is Section Default? :**

null

**Question Number : 700 Question Id : 48558437295 Question Type : MCQ Option Shuffling : No Is Question Mandatory : No Calculator : None**

**Response Time : N.A Think Time : N.A Minimum Instruction Time : 0**

**Correct Marks : 5 Wrong Marks : 1**

**Question Key Details :**

Key	Value
Comprehension	Comp3

तलको अनुच्छेद पढेर सोधिएका प्रश्नहरूको उत्तर सही विकल्प छानेर दिनुहोस्।

पुस्तकालयको अर्थ पुस्तक राख्ने घर हो। पुस्तकहरू राखिने वा सङ्ग्रह गरिने ठाउँलाई पुस्तकालय भनिन्छ। जहाँ पुस्तकहरूको उपयोग पठन-पाठनका निम्ति गरिन्छ त्यही सङ्ग्रहलाई पुस्तकालय भनिन्छ। पुस्तक ज्ञान प्राप्तिको श्रेष्ठ माध्यम हो। ज्ञान नै ईश्वर हो, ज्ञान नै सत्य, नित्य र आनन्द हो। पुस्तकालय विभिन्न प्रकारका हुन्छन्। जस्तै व्यक्तिगत पुस्तकालय, शिक्षा संस्थानका पुस्तकालय, सार्वजनिक पुस्तकालय, सरकारी पुस्तकालय। कुनै व्यक्तिले आफ्नो रुचि र आवश्यकता अनुसार सङ्ग्रह गरेको पुस्तक समूह नै व्यक्तिगत पुस्तकालय हो। विद्यार्थी तथा शिक्षकहरूको आवश्यकता अनुरूप शैक्षिक संस्थानमा भएको पुस्तकालय दोस्रो किसिमको पुस्तकालय हो। सम्पूर्ण समाजका व्यक्तिहरूले सदस्यता लिएर उपयोग गर्न सक्ने पुस्तकालय सार्वजनिक पुस्तकालय हो। सरकारी पुस्तकालयको प्रयोग राज्यका कर्मचारी अनि अनुमति प्राप्त विशेष व्यक्तिद्वारा गरिन्छ। ज्ञान प्राप्तिका लागि पुस्तकालय सबैभन्दा ठुलो सहयोगी साथी हो। यसैकारण यो व्यक्ति समाज तथा राष्ट्र सबैका निम्ति महत्त्वपूर्ण छ। एउटा ज्ञानी व्यक्तिले समाज एवम् राष्ट्रका साथ-साथै मानवताको कल्याण गर्छ। यसैले पुस्तक प्रत्येक मानिसका लागि महत्त्वपूर्ण चिज हो। विद्यालय तथा महाविद्यालयमा दिइने शिक्षा सङ्कुचित हुन्छ। पाठ्यक्रमको सीमामा त्यो ज्ञान खुम्चिएको हुन्छ। पाठ्यक्रम पढेर विद्यार्थी परीक्षामा उत्तीर्ण त हुन सक्छ तर उसको विषयगत ज्ञान सीमित हुन्छ। विषयगत ज्ञानको वास्तविक स्वरूप प्राप्त गर्नका लागि एवम् त्यस विषयसित सम्बन्धित ज्ञान प्राप्त गर्नका लागि उसलाई पुस्तकालयको आवश्यकता पर्छ। कुनै पनि विषयमा शोध एवम् अनुसन्धान कार्यका लागि पुस्तकालयमा सङ्ग्रहित पुस्तकहरूबाट दुर्लभ तथ्यको जानकारी पाउन सकिन्छ, जसलाई अरू कतैबाट पाउन सकिँदैन। कुनै पनि विषयमा सम्बन्धित दुर्लभ पुस्तकहरू केवल पुस्तकालयमा मात्र पाउन सकिन्छ। भारत स्वतन्त्र भएपछि सरकारले गाउँ-गाउँमा पुस्तकालय सुरु गर्ने अभियान चलाएको थियो। यसका पछिको मूल कारण ज्ञानको प्रचार गर्नु थियो। रोजगार भने गौण थियो। तर सरकार को यो अभियान सफल हुन सकेन। गाउँ घरमा पुस्तकालयहरू छैन। कतै पुस्तकालय छ भने पनि पुस्तक पढ्नेहरू आउँदैनन्। आजका युवाहरू मोबाइल, कम्प्युटर र इन्टरनेटका भरमा छन्। यी साधनबाट सूचना वा जानकारी प्राप्त त हुन्छ तर ज्ञान भने पुस्तक पढनाले नै प्राप्त हुन्छ। पुस्तकालय ज्ञानको त्यो झण्डा हो जसले हामीलाई ज्ञान प्रदान गर्दछ। ज्ञान प्राप्तिले नै मानिस वास्तविक मानव बन्न सक्छ। यस्तो मानिसबाट नै राष्ट्रको कल्याण हुन सक्छ। यसैले पुस्तकालय हाम्रा निम्ति अत्यन्तै महत्त्वपूर्ण एवम् आवश्यक छ। आज सरकार तथा सामाजिक सङ्गठनहरूले अत्याधिक पुस्तकालय स्थापना गर्नु आवश्यक छ।

ज्ञानको मन्दिर पुस्तकालय हो भने ज्ञानको भण्डार के हो?

1. कम्प्युटर
2. त्यापटप
3. पुस्तक
4. चलचित्र

Options :

485584149177. 1  
485584149178. 2  
485584149179. 3  
485584149180. 4

Question Number : 701 Question Id : 48558437296 Question Type : MCQ Option Shuffling : No Is Question Mandatory : No Calculator : None  
Response Time : N.A Think Time : N.A Minimum Instruction Time : 0

Correct Marks : 5 Wrong Marks : 1

Question Key Details :

Key	Value
Comprehension	Comp3

तलको अनुच्छेद पढेर सोधिएका प्रश्नहरूको उत्तर सही विकल्प छानेर दिनुहोस्।

पुस्तकालयको अर्थ पुस्तक राख्ने घर हो। पुस्तकहरू राखिने वा सङ्ग्रह गरिने ठाउँलाई पुस्तकालय भनिन्छ। जहाँ पुस्तकहरूको उपयोग पठन-पाठनका निम्ति गरिन्छ त्यही सङ्ग्रहलाई पुस्तकालय भनिन्छ। पुस्तक ज्ञान प्राप्तिको श्रेष्ठ माध्यम हो। ज्ञान नै ईश्वर हो, ज्ञान नै सत्य, नित्य र आनन्द हो। पुस्तकालय विभिन्न प्रकारका हुन्छन्। जस्तै व्यक्तिगत पुस्तकालय, शिक्षा संस्थानका पुस्तकालय, सार्वजनिक पुस्तकालय, सरकारी पुस्तकालय। कुनै व्यक्तिले आफ्नो रुचि र आवश्यकता अनुसार सङ्ग्रह गरेको पुस्तक समूह नै व्यक्तिगत पुस्तकालय हो। विद्यार्थी तथा शिक्षकहरूको आवश्यकता अनुरूप शैक्षिक संस्थानमा भएको पुस्तकालय दोस्रो किसिमको पुस्तकालय हो। सम्पूर्ण समाजका व्यक्तिहरूले सदस्यता लिएर उपयोग गर्न सक्ने पुस्तकालय सार्वजनिक पुस्तकालय हो। सरकारी पुस्तकालयको प्रयोग राज्यका कर्मचारी अनि अनुमति प्राप्त विशेष व्यक्तिद्वारा गरिन्छ। ज्ञान प्राप्तिका लागि पुस्तकालय सबैभन्दा ठुलो सहयोगी साथी हो। यसैकारण यो व्यक्ति समाज तथा राष्ट्र सबैका निम्ति महत्त्वपूर्ण छ। एउटा ज्ञानी व्यक्तिले समाज एवम् राष्ट्रका साथ-साथै मानवताको कल्याण गर्छ। यसैले पुस्तक प्रत्येक मानिसका लागि महत्त्वपूर्ण चिज हो। विद्यालय तथा महाविद्यालयमा दिइने शिक्षा सङ्कुचित हुन्छ। पाठ्यक्रमको सीमामा त्यो ज्ञान खुम्चिएको हुन्छ। पाठ्यक्रम पढेर विद्यार्थी परीक्षामा उत्तीर्ण त हुन सक्छ तर उसको विषयगत ज्ञान सीमित हुन्छ। विषयगत ज्ञानको वास्तविक स्वरूप प्राप्त गर्नका लागि एवम् त्यस विषयसित सम्बन्धित ज्ञान प्राप्त गर्नका लागि उसलाई पुस्तकालयको आवश्यकता पर्छ। कुनै पनि विषयमा शोध एवम् अनुसन्धान कार्यका लागि पुस्तकालयमा सङ्ग्रहित पुस्तकहरूबाट दुर्लभ तथ्यको जानकारी पाउन सकिन्छ, जसलाई अरू कतैबाट पाउन सकिँदैन। कुनै पनि विषयमा सम्बन्धित दुर्लभ पुस्तकहरू केवल पुस्तकालयमा मात्र पाउन सकिन्छ। भारत स्वतन्त्र भएपछि सरकारले गाउँ-गाउँमा पुस्तकालय सुरु गर्ने अभियान चलाएको थियो। यसका पछिको मूल कारण ज्ञानको प्रचार गर्नु थियो। रोजगार भने गौण थियो। तर सरकार को यो अभियान सफल हुन सकेन। गाउँ घरमा पुस्तकालयहरू छैन। कतै पुस्तकालय छ भने पनि पुस्तक पढ्नेहरू आउँदैनन्। आजका युवाहरू मोबाइल, कम्प्युटर र इन्टरनेटका भरमा छन्। यी साधनबाट सूचना वा जानकारी प्राप्त त हुन्छ तर ज्ञान भने पुस्तक पढनाले नै प्राप्त हुन्छ। पुस्तकालय ज्ञानको त्यो झण्डा हो जसले हामीलाई ज्ञान प्रदान गर्दछ। ज्ञान प्राप्तिले नै मानिस वास्तविक मानव बन्न सक्छ। यस्तो मानिसबाट नै राष्ट्रको कल्याण हुन सक्छ। यसैले पुस्तकालय हाम्रा निम्ति अत्यन्तै महत्त्वपूर्ण एवम् आवश्यक छ। आज सरकार तथा सामाजिक सङ्गठनहरूले अत्याधिक पुस्तकालय स्थापना गर्नु आवश्यक छ।

गाउँघर र समाज मिलेर बनाइएको पुस्तकालयलाई कस्तो पुस्तकालय भनिन्छ?

1. सार्वजनिक पुस्तकालय
2. सरकारी पुस्तकालय
3. शिक्षा संस्थानको पुस्तकालय
4. व्यक्तिगत पुस्तकालय

Options :

485584149181. 1  
485584149182. 2  
485584149183. 3  
485584149184. 4

Question Number : 702 Question Id : 48558437297 Question Type : MCQ Option Shuffling : No Is Question Mandatory : No Calculator : None Response Time : N.A Think Time : N.A Minimum Instruction Time : 0

Correct Marks : 5 Wrong Marks : 1

Question Key Details :

Key	Value
Comprehension	Comp3

तलको अनुच्छेद पढेर सोधिएका प्रश्नहरूको उत्तर सही विकल्प छानेर दिनुहोस्।

पुस्तकालयको अर्थ पुस्तक राख्ने घर हो। पुस्तकहरू राखिने वा सङ्ग्रह गरिने ठाउँलाई पुस्तकालय भनिन्छ। जहाँ पुस्तकहरूको उपयोग पठन-पाठनका निम्ति गरिन्छ त्यही सङ्ग्रहलाई पुस्तकालय भनिन्छ। पुस्तक ज्ञान प्राप्तिको श्रेष्ठ माध्यम हो। ज्ञान नै ईश्वर हो, ज्ञान नै सत्य, नित्य र आनन्द हो। पुस्तकालय विभिन्न प्रकारका हुन्छन्। जस्तै व्यक्तिगत पुस्तकालय, शिक्षा संस्थानका पुस्तकालय, सार्वजनिक पुस्तकालय, सरकारी पुस्तकालय। कुनै व्यक्तिले आफ्नो रुचि र आवश्यकता अनुसार सङ्ग्रह गरेको पुस्तक समूह नै व्यक्तिगत पुस्तकालय हो। विद्यार्थी तथा शिक्षकहरूको आवश्यकता अनुरूप शैक्षिक संस्थानमा भएको पुस्तकालय दोस्रो किसिमको पुस्तकालय हो। सम्पूर्ण समाजका व्यक्तिहरूले सदस्यता लिएर उपयोग गर्न सक्ने पुस्तकालय सार्वजनिक पुस्तकालय हो। सरकारी पुस्तकालयको प्रयोग राज्यका कर्मचारी अनि अनुमति प्राप्त विशेष व्यक्तिद्वारा गरिन्छ। ज्ञान प्राप्तिका लागि पुस्तकालय सबैभन्दा ठुलो सहयोगी साथी हो। यसकारण यो व्यक्ति समाज तथा राष्ट्र सबैका निम्ति महत्त्वपूर्ण छ। एउटा ज्ञानी व्यक्तिले समाज एवम् राष्ट्रका साथ-साथै मानवताको कल्याण गर्छ। यसैले पुस्तक प्रत्येक मानिसका लागि महत्त्वपूर्ण चिज हो। विद्यालय तथा महाविद्यालयमा दिइने शिक्षा सङ्कुचित हुन्छ। पाठ्यक्रमको सीमामा त्यो ज्ञान खुम्चिएको हुन्छ। पाठ्यक्रम पढेर विद्यार्थी परीक्षामा उत्तीर्ण त हुन सक्छ तर उसको विषयगत ज्ञान सीमित हुन्छ। विषयगत ज्ञानको वास्तविक स्वरूप प्राप्त गर्नका लागि एवम् त्यस विषयसित सम्बन्धित ज्ञान प्राप्त गर्नका लागि उसलाई पुस्तकालयको आवश्यकता पर्छ। कुनै पनि विषयमा शोध एवम् अनुसन्धान कार्यका लागि पुस्तकालयमा सङ्ग्रहित पुस्तकहरूबाट दुर्लभ तथ्यको जानकारी पाउन सकिन्छ, जसलाई अरू कतैबाट पाउन सकिँदैन। कुनै पनि विषयमा सम्बन्धित दुर्लभ पुस्तकहरू केवल पुस्तकालयमा मात्र पाउन सकिन्छ। भारत स्वतन्त्र भएपछि सरकारले गाउँ-गाउँमा पुस्तकालय सुरु गर्ने अभियान चलाएको थियो। यसका पछिको मूल कारण ज्ञानको प्रचार गर्नु थियो। रोजगार भने गौण थियो। तर सरकार को यो अभियान सफल हुन सकेन। गाउँ घरमा पुस्तकालयहरू छैन। कतै पुस्तकालय छ भने पनि पुस्तक पढ्नेहरू आउँदैनन्। आजका युवाहरू मोबाइल, कम्प्युटर र इन्टरनेटका भरमा छन्। यी साधनबाट सूचना वा जानकारी प्राप्त त हुन्छ तर ज्ञान भने पुस्तक पढनाले नै प्राप्त हुन्छ। पुस्तकालय ज्ञानको त्यो झण्डा हो जसले हामीलाई ज्ञान प्रदान गर्दछ। ज्ञान प्राप्तिले नै मानिस वास्तविक मानव बन्न सक्छ। यस्तो मानिसबाट नै राष्ट्रको कल्याण हुन सक्छ। यसैले पुस्तकालय हाम्रा निम्ति अत्यन्तै महत्त्वपूर्ण एवम् आवश्यक छ। आज सरकार तथा सामाजिक सङ्गठनहरूले अत्याधिक पुस्तकालय स्थापना गर्नु आवश्यक छ।

विद्यालय र महाविद्यालयको शिक्षा सङ्कुचित हुन्छ। किन ?

1. विद्यार्थीहरू पढ्न मान्दैनन्
2. शिक्षा पाठ्यक्रममा बाँधिएको हुन्छ
3. पुस्तकको कमी हुन्छ
4. समयको कमी हुन्छ

Options :

485584149185. 1  
485584149186. 2  
485584149187. 3  
485584149188. 4

Question Number : 703 Question Id : 48558437298 Question Type : MCQ Option Shuffling : No Is Question Mandatory : No Calculator : None Response Time : N.A Think Time : N.A Minimum Instruction Time : 0

Correct Marks : 5 Wrong Marks : 1

Question Key Details :

Key	Value
Comprehension	Comp3

तलको अनुच्छेद पढेर सोधिएका प्रश्नहरूको उत्तर सही विकल्प छानेर दिनुहोस्।

पुस्तकालयको अर्थ पुस्तक राख्ने घर हो। पुस्तकहरू राखिने वा सङ्ग्रह गरिने ठाउँलाई पुस्तकालय भनिन्छ। जहाँ पुस्तकहरूको उपयोग पठन-पाठनका निम्ति गरिन्छ त्यही सङ्ग्रहलाई पुस्तकालय भनिन्छ। पुस्तक ज्ञान प्राप्तिको श्रेष्ठ माध्यम हो। ज्ञान नै ईश्वर हो, ज्ञान नै सत्य, नित्य र आनन्द हो। पुस्तकालय विभिन्न प्रकारका हुन्छन्। जस्तै व्यक्तिगत पुस्तकालय, शिक्षा संस्थानका पुस्तकालय, सार्वजनिक पुस्तकालय, सरकारी पुस्तकालय। कुनै व्यक्तिले आफ्नो रुचि र आवश्यकता अनुसार सङ्ग्रह गरेको पुस्तक समूह नै व्यक्तिगत पुस्तकालय हो। विद्यार्थी तथा शिक्षकहरूको आवश्यकता अनुरूप शैक्षिक संस्थानमा भएको पुस्तकालय दोस्रो किसिमको पुस्तकालय हो। सम्पूर्ण समाजका व्यक्तिहरूले सदस्यता लिएर उपयोग गर्न सक्ने पुस्तकालय सार्वजनिक पुस्तकालय हो। सरकारी पुस्तकालयको प्रयोग राज्यका कर्मचारी अनि अनुमति प्राप्त विशेष व्यक्तिद्वारा गरिन्छ। ज्ञान प्राप्तिका लागि पुस्तकालय सबैभन्दा ठुलो सहयोगी साथी हो। यसैकारण यो व्यक्ति समाज तथा राष्ट्र सबैका निम्ति महत्त्वपूर्ण छ। एउटा ज्ञानी व्यक्तिले समाज एवम् राष्ट्रका साथ-साथै मानवताको कल्याण गर्छ। यसैले पुस्तक प्रत्येक मानिसका लागि महत्त्वपूर्ण चिज हो। विद्यालय तथा महाविद्यालयमा दिइने शिक्षा सङ्कुचित हुन्छ। पाठ्यक्रमको सीमामा त्यो ज्ञान खुम्चिएको हुन्छ। पाठ्यक्रम पढेर विद्यार्थी परीक्षामा उत्तीर्ण त हुन सक्छ तर उसको विषयगत ज्ञान सीमित हुन्छ। विषयगत ज्ञानको वास्तविक स्वरूप प्राप्त गर्नका लागि एवम् त्यस विषयसित सम्बन्धित ज्ञान प्राप्त गर्नका लागि उसलाई पुस्तकालयको आवश्यकता पर्छ। कुनै पनि विषयमा शोध एवम् अनुसन्धान कार्यका लागि पुस्तकालयमा सङ्ग्रहित पुस्तकहरूबाट दुर्लभ तथ्यको जानकारी पाउन सकिन्छ, जसलाई अरू कतैबाट पाउन सकिँदैन। कुनै पनि विषयमा सम्बन्धित दुर्लभ पुस्तकहरू केवल पुस्तकालयमा मात्र पाउन सकिन्छ। भारत स्वतन्त्र भएपछि सरकारले गाउँ-गाउँमा पुस्तकालय सुरु गर्ने अभियान चलाएको थियो। यसका पछिको मूल कारण ज्ञानको प्रचार गर्नु थियो। रोजगार भने गौण थियो। तर सरकार को यो अभियान सफल हुन सकेन। गाउँ घरमा पुस्तकालयहरू छैन। कतै पुस्तकालय छ भने पनि पुस्तक पढ्नेहरू आउँदैनन्। आजका युवाहरू मोबाइल, कम्प्युटर र इन्टरनेटका भरमा छन्। यी साधनबाट सूचना वा जानकारी प्राप्त त हुन्छ तर ज्ञान भने पुस्तक पढनाले नै प्राप्त हुन्छ। पुस्तकालय ज्ञानको त्यो झण्डा हो जसले हामीलाई ज्ञान प्रदान गर्दछ। ज्ञान प्राप्तिले नै मानिस वास्तविक मानव बन्न सक्छ। यस्तो मानिसबाट नै राष्ट्रको कल्याण हुन सक्छ। यसैले पुस्तकालय हाम्रा निम्ति अत्यन्तै महत्त्वपूर्ण एवम् आवश्यक छ। आज सरकार तथा सामाजिक सङ्गठनहरूले अत्याधिक पुस्तकालय स्थापना गर्नु आवश्यक छ।

पाठ्यक्रम पढेर विद्यार्थीहरू परीक्षा उत्तीर्ण हुन्छन् तर जीवनमा उत्तीर्ण हुनाका लागि के आवश्यक हुन्छ?

1. देश विदेशको यात्रा गर्नु
2. ज्ञान विज्ञानका पुस्तक पढ्नु
3. इन्टरनेटको संसारमा बस्नु
4. जीवनमा रमाइलो गर्नु

Options :

485584149189. 1
485584149190. 2
485584149191. 3
485584149192. 4

Question Number : 704 Question Id : 48558437299 Question Type : MCQ Option Shuffling : No Is Question Mandatory : No Calculator : None

Response Time : N.A Think Time : N.A Minimum Instruction Time : 0

Correct Marks : 5 Wrong Marks : 1

Question Key Details :

Key	Value
Comprehension	Comp3

तलको अनुच्छेद पढेर सोधिएका प्रश्नहरूको उत्तर सही विकल्प छानेर दिनुहोस्।

पुस्तकालयको अर्थ पुस्तक राख्ने घर हो। पुस्तकहरू राखिने वा सङ्ग्रह गरिने ठाउँलाई पुस्तकालय भनिन्छ। जहाँ पुस्तकहरूको उपयोग पठन-पाठनका निम्ति गरिन्छ त्यही सङ्ग्रहलाई पुस्तकालय भनिन्छ। पुस्तक ज्ञान प्राप्तिको श्रेष्ठ माध्यम हो। ज्ञान नै ईश्वर हो, ज्ञान नै सत्य, नित्य र आनन्द हो। पुस्तकालय विभिन्न प्रकारका हुन्छन्। जस्तै व्यक्तिगत पुस्तकालय, शिक्षा संस्थानका पुस्तकालय, सार्वजनिक पुस्तकालय, सरकारी पुस्तकालय। कुनै व्यक्तिले आफ्नो रुचि र आवश्यकता अनुसार सङ्ग्रह गरेको पुस्तक समूह नै व्यक्तिगत पुस्तकालय हो। विद्यार्थी तथा शिक्षकहरूको आवश्यकता अनुरूप शैक्षिक संस्थानमा भएको पुस्तकालय दोस्रो किसिमको पुस्तकालय हो। सम्पूर्ण समाजका व्यक्तिहरूले सदस्यता लिएर उपयोग गर्न सक्ने पुस्तकालय सार्वजनिक पुस्तकालय हो। सरकारी पुस्तकालयको प्रयोग राज्यका कर्मचारी अनि अनुमति प्राप्त विशेष व्यक्तिद्वारा गरिन्छ। ज्ञान प्राप्तिका लागि पुस्तकालय सबैभन्दा ठुलो सहयोगी साथी हो। यसैकारण यो व्यक्ति समाज तथा राष्ट्र सबैका निम्ति महत्त्वपूर्ण छ। एउटा ज्ञानी व्यक्तिले समाज एवम् राष्ट्रका साथ-साथै मानवताको कल्याण गर्छ। यसैले पुस्तक प्रत्येक मानिसका लागि महत्त्वपूर्ण चिज हो। विद्यालय तथा महाविद्यालयमा दिइने शिक्षा सङ्कुचित हुन्छ। पाठ्यक्रमको सीमामा त्यो ज्ञान खुम्चिएको हुन्छ। पाठ्यक्रम पढेर विद्यार्थी परीक्षामा उत्तीर्ण त हुन सक्छ तर उसको विषयगत ज्ञान सीमित हुन्छ। विषयगत ज्ञानको वास्तविक स्वरूप प्राप्त गर्नका लागि एवम् त्यस विषयसित सम्बन्धित ज्ञान प्राप्त गर्नका लागि उसलाई पुस्तकालयको आवश्यकता पर्छ। कुनै पनि विषयमा शोध एवम् अनुसन्धान कार्यका लागि पुस्तकालयमा सङ्ग्रहित पुस्तकहरूबाट दुर्लभ तथ्यको जानकारी पाउन सकिन्छ, जसलाई अरू कतैबाट पाउन सकिँदैन। कुनै पनि विषयमा सम्बन्धित दुर्लभ पुस्तकहरू केवल पुस्तकालयमा मात्र पाउन सकिन्छ। भारत स्वतन्त्र भएपछि सरकारले गाउँ-गाउँमा पुस्तकालय सुरु गर्ने अभियान चलाएको थियो। यसका पछिको मूल कारण ज्ञानको प्रचार गर्नु थियो। रोजगार भने गौण थियो। तर सरकार को यो अभियान सफल हुन सकेन। गाउँ घरमा पुस्तकालयहरू छैन। कतै पुस्तकालय छ भने पनि पुस्तक पढ्नेहरू आउँदैनन्। आजका युवाहरू मोबाइल, कम्प्युटर र इन्टरनेटका भरमा छन्। यी साधनबाट सूचना वा जानकारी प्राप्त त हुन्छ तर ज्ञान भने पुस्तक पढनाले नै प्राप्त हुन्छ। पुस्तकालय ज्ञानको त्यो झण्डा हो जसले हामीलाई ज्ञान प्रदान गर्दछ। ज्ञान प्राप्तिले नै मानिस वास्तविक मानव बन्न सक्छ। यस्तो मानिसबाट नै राष्ट्रको कल्याण हुन सक्छ। यसैले पुस्तकालय हाम्रा निम्ति अत्यन्तै महत्त्वपूर्ण एवम् आवश्यक छ। आज सरकार तथा सामाजिक सङ्गठनहरूले अत्याधिक पुस्तकालय स्थापना गर्नु आवश्यक छ।

विषयगत ज्ञानको वास्तविक स्वरूप कहाँबाट प्राप्त हुन्छ?

1. इन्टरनेटबाट
2. सामाजिक सञ्जालबाट
3. पुस्तकबाट
4. समाचारबाट

Options :

485584149193. 1  
485584149194. 2  
485584149195. 3  
485584149196. 4

Question Number : 705 Question Id : 48558437300 Question Type : MCQ Option Shuffling : No Is Question Mandatory : No Calculator : None  
Response Time : N.A Think Time : N.A Minimum Instruction Time : 0

Correct Marks : 5 Wrong Marks : 1

Question Key Details :

Key	Value
Comprehension	Comp3



तलको अनुच्छेद पढेर सोधिएका प्रश्नहरूको उत्तर सही विकल्प छानेर दिनुहोस्।

पुस्तकालयको अर्थ पुस्तक राख्ने घर हो। पुस्तकहरू राखिने वा सङ्ग्रह गरिने ठाउँलाई पुस्तकालय भनिन्छ। जहाँ पुस्तकहरूको उपयोग पठन-पाठनका निम्ति गरिन्छ त्यही सङ्ग्रहलाई पुस्तकालय भनिन्छ। पुस्तक ज्ञान प्राप्तिको श्रेष्ठ माध्यम हो। ज्ञान नै ईश्वर हो, ज्ञान नै सत्य, नित्य र आनन्द हो। पुस्तकालय विभिन्न प्रकारका हुन्छन्। जस्तै व्यक्तिगत पुस्तकालय, शिक्षा संस्थानका पुस्तकालय, सार्वजनिक पुस्तकालय, सरकारी पुस्तकालय। कुनै व्यक्तिले आफ्नो रुचि र आवश्यकता अनुसार सङ्ग्रह गरेको पुस्तक समूह नै व्यक्तिगत पुस्तकालय हो। विद्यार्थी तथा शिक्षकहरूको आवश्यकता अनुरूप शैक्षिक संस्थानमा भएको पुस्तकालय दोस्रो किसिमको पुस्तकालय हो। सम्पूर्ण समाजका व्यक्तिहरूले सदस्यता लिएर उपयोग गर्न सक्ने पुस्तकालय सार्वजनिक पुस्तकालय हो। सरकारी पुस्तकालयको प्रयोग राज्यका कर्मचारी अनि अनुमति प्राप्त विशेष व्यक्तिद्वारा गरिन्छ। ज्ञान प्राप्तिका लागि पुस्तकालय सबैभन्दा ठुलो सहयोगी साथी हो। यसकारण यो व्यक्ति समाज तथा राष्ट्र सबैका निम्ति महत्त्वपूर्ण छ। एउटा ज्ञानी व्यक्तिले समाज एवम् राष्ट्रका साथ-साथै मानवताको कल्याण गर्छ। यसैले पुस्तक प्रत्येक मानिसका लागि महत्त्वपूर्ण चिज हो। विद्यालय तथा महाविद्यालयमा दिइने शिक्षा सङ्कुचित हुन्छ। पाठ्यक्रमको सीमामा त्यो ज्ञान खुम्चिएको हुन्छ। पाठ्यक्रम पढेर विद्यार्थी परीक्षामा उत्तीर्ण त हुन सक्छ तर उसको विषयगत ज्ञान सीमित हुन्छ। विषयगत ज्ञानको वास्तविक स्वरूप प्राप्त गर्नका लागि एवम् त्यस विषयसित सम्बन्धित ज्ञान प्राप्त गर्नका लागि उसलाई पुस्तकालयको आवश्यकता पर्छ। कुनै पनि विषयमा शोध एवम् अनुसन्धान कार्यका लागि पुस्तकालयमा सङ्ग्रहित पुस्तकहरूबाट दुर्लभ तथ्यको जानकारी पाउन सकिन्छ, जसलाई अरू कतैबाट पाउन सकिँदैन। कुनै पनि विषयमा सम्बन्धित दुर्लभ पुस्तकहरू केवल पुस्तकालयमा मात्र पाउन सकिन्छ। भारत स्वतन्त्र भएपछि सरकारले गाउँ-गाउँमा पुस्तकालय सुरु गर्ने अभियान चलाएको थियो। यसका पछिको मूल कारण ज्ञानको प्रचार गर्नु थियो। रोजगार भने गौण थियो। तर सरकार को यो अभियान सफल हुन सकेन। गाउँ घरमा पुस्तकालयहरू छैन। कतै पुस्तकालय छ भने पनि पुस्तक पढ्नेहरू आउँदैनन्। आजका युवाहरू मोबाइल, कम्प्युटर र इन्टरनेटका भरमा छन्। यी साधनबाट सूचना वा जानकारी प्राप्त त हुन्छ तर ज्ञान भने पुस्तक पढनाले नै प्राप्त हुन्छ। पुस्तकालय ज्ञानको त्यो झण्डा हो जसले हामीलाई ज्ञान प्रदान गर्दछ। ज्ञान प्राप्तिले नै मानिस वास्तविक मानव बन्न सक्छ। यस्तो मानिसबाट नै राष्ट्रको कल्याण हुन सक्छ। यसैले पुस्तकालय हाम्रा निम्ति अत्यन्तै महत्त्वपूर्ण एवम् आवश्यक छ। आज सरकार तथा सामाजिक सङ्गठनहरूले अत्याधिक पुस्तकालय स्थापना गर्नु आवश्यक छ।

सरकारले गाउँ-गाउँमा पुस्तकालय बनाउने अभियान सुरु गर्नका पछि के उद्देश्य थियो ?

1. रोजगार वृद्धि गर्नु
2. विचार सम्प्रेषण गर्नु
3. ज्ञानको प्रचार गर्नु
4. संस्थानको विकास गर्नु

Options :

485584149197. 1  
485584149198. 2  
485584149199. 3  
485584149200. 4

Question Number : 706 Question Id : 48558437301 Question Type : MCQ Option Shuffling : No Is Question Mandatory : No Calculator : None  
Response Time : N.A Think Time : N.A Minimum Instruction Time : 0  
Correct Marks : 5 Wrong Marks : 1

Question Key Details :

Key	Value
Comprehension	Comp3

तलको अनुच्छेद पढेर सोधिएका प्रश्नहरूको उत्तर सही विकल्प छानेर दिनुहोस्।

पुस्तकालयको अर्थ पुस्तक राख्ने घर हो। पुस्तकहरू राखिने वा सङ्ग्रह गरिने ठाउँलाई पुस्तकालय भनिन्छ। जहाँ पुस्तकहरूको उपयोग पठन-पाठनका निम्ति गरिन्छ त्यही सङ्ग्रहलाई पुस्तकालय भनिन्छ। पुस्तक ज्ञान प्राप्तिको श्रेष्ठ माध्यम हो। ज्ञान नै ईश्वर हो, ज्ञान नै सत्य, नित्य र आनन्द हो। पुस्तकालय विभिन्न प्रकारका हुन्छन्। जस्तै व्यक्तिगत पुस्तकालय, शिक्षा संस्थानका पुस्तकालय, सार्वजनिक पुस्तकालय, सरकारी पुस्तकालय। कुनै व्यक्तिले आफ्नो रुचि र आवश्यकता अनुसार सङ्ग्रह गरेको पुस्तक समूह नै व्यक्तिगत पुस्तकालय हो। विद्यार्थी तथा शिक्षकहरूको आवश्यकता अनुरूप शैक्षिक संस्थानमा भएको पुस्तकालय दोस्रो किसिमको पुस्तकालय हो। सम्पूर्ण समाजका व्यक्तिहरूले सदस्यता लिएर उपयोग गर्न सक्ने पुस्तकालय सार्वजनिक पुस्तकालय हो। सरकारी पुस्तकालयको प्रयोग राज्यका कर्मचारी अनि अनुमति प्राप्त विशेष व्यक्तिद्वारा गरिन्छ। ज्ञान प्राप्तिका लागि पुस्तकालय सबैभन्दा ठुलो सहयोगी साथी हो। यसैकारण यो व्यक्ति समाज तथा राष्ट्र सबैका निम्ति महत्त्वपूर्ण छ। एउटा ज्ञानी व्यक्तिले समाज एवम् राष्ट्रका साथ-साथै मानवताको कल्याण गर्छ। यसैले पुस्तक प्रत्येक मानिसका लागि महत्त्वपूर्ण चिज हो। विद्यालय तथा महाविद्यालयमा दिइने शिक्षा सङ्कुचित हुन्छ। पाठ्यक्रमको सीमामा त्यो ज्ञान खुम्चिएको हुन्छ। पाठ्यक्रम पढेर विद्यार्थी परीक्षामा उत्तीर्ण त हुन सक्छ तर उसको विषयगत ज्ञान सीमित हुन्छ। विषयगत ज्ञानको वास्तविक स्वरूप प्राप्त गर्नका लागि एवम् त्यस विषयसित सम्बन्धित ज्ञान प्राप्त गर्नका लागि उसलाई पुस्तकालयको आवश्यकता पर्छ। कुनै पनि विषयमा शोध एवम् अनुसन्धान कार्यका लागि पुस्तकालयमा सङ्ग्रहित पुस्तकहरूबाट दुर्लभ तथ्यको जानकारी पाउन सकिन्छ, जसलाई अरू कतैबाट पाउन सकिँदैन। कुनै पनि विषयमा सम्बन्धित दुर्लभ पुस्तकहरू केवल पुस्तकालयमा मात्र पाउन सकिन्छ। भारत स्वतन्त्र भएपछि सरकारले गाउँ-गाउँमा पुस्तकालय सुरु गर्ने अभियान चलाएको थियो। यसका पछिको मूल कारण ज्ञानको प्रचार गर्नु थियो। रोजगार भने गौण थियो। तर सरकार को यो अभियान सफल हुन सकेन। गाउँ घरमा पुस्तकालयहरू छैन। कतै पुस्तकालय छ भने पनि पुस्तक पढ्नेहरू आउँदैनन्। आजका युवाहरू मोबाइल, कम्प्युटर र इन्टरनेटका भरमा छन्। यी साधनबाट सूचना वा जानकारी प्राप्त त हुन्छ तर ज्ञान भने पुस्तक पढनाले नै प्राप्त हुन्छ। पुस्तकालय ज्ञानको त्यो झण्डा हो जसले हामीलाई ज्ञान प्रदान गर्दछ। ज्ञान प्राप्तिले नै मानिस वास्तविक मानव बन्न सक्छ। यस्तो मानिसबाट नै राष्ट्रको कल्याण हुन सक्छ। यसैले पुस्तकालय हाम्रा निम्ति अत्यन्तै महत्त्वपूर्ण एवम् आवश्यक छ। आज सरकार तथा सामाजिक सङ्गठनहरूले अत्याधिक पुस्तकालय स्थापना गर्नु आवश्यक छ।

पुस्तकालय भनेको के हो?

1. पुस्तक पाउने पसल
2. पुस्तक पढ्ने घर
3. पुस्तक प्रदर्शन गर्ने ठाउँ
4. पुस्तक सङ्ग्रह गरिने ठाउँ

Options :

485584149201. 1
485584149202. 2
485584149203. 3
485584149204. 4

Sub-Section Number :

4

Sub-Section Id :

4855842830

Question Shuffling Allowed :

Yes

Is Section Default? :

null

Question Number : 707 Question Id : 48558437302 Question Type : MCQ Option Shuffling : No Is Question Mandatory : No Calculator : None Response Time : N.A Think Time : N.A Minimum Instruction Time : 0

Correct Marks : 5 Wrong Marks : 1

Question Key Details :

Key	Value
Comprehension	MCQ

तलका शब्दहरूको क्रम मिलाएर वाक्य रचनामा लेख्नुहोस्।

- A. नजरका
- B. राम्रा
- C. जुहार
- D. रचना
- E. सिर्जनाभिन्न

तलका विकल्पबाट सही उत्तर छान्नुहोस्।

- 1. B,D,E,A,C
- 2. E,C,B,D,A
- 3. E,D,B,A,C
- 4. D,B,E,A,C

**Options :**

- 485584149205. 1
- 485584149206. 2
- 485584149207. 3
- 485584149208. 4

**Question Number : 708 Question Id : 48558437303 Question Type : MCQ Option Shuffling : No Is Question Mandatory : No Calculator : None Response Time : N.A Think Time : N.A Minimum Instruction Time : 0**

**Correct Marks : 5 Wrong Marks : 1**

**Question Key Details :**

Key	Value
Comprehension	MCQ

तल दिइएका नेपाली महिनाका नामहरूको क्रम मिलाउनुहोस्।

- A. कार्तिक
- B. साउन
- C. मङ्सिर
- D. असोज
- E. भदौ

तलका विकल्पबाट सही उत्तर छान्नुहोस्।

- 1. E,D,A,B,C
- 2. B,E,D,A,C
- 3. D,A,B,E,C
- 4. A,D,E,C,B

**Options :**

- 485584149209. 1
- 485584149210. 2
- 485584149211. 3
- 485584149212. 4

**Question Number : 709 Question Id : 48558437304 Question Type : MCQ Option Shuffling : No Is Question Mandatory : No Calculator : None Response Time : N.A Think Time : N.A Minimum Instruction Time : 0**

**Correct Marks : 5 Wrong Marks : 1**

**Question Key Details :**

Key	Value
Comprehension	MCQ

प्रकाशन कालका अधारमा बालकृष्ण समकृत कविता कृतिको क्रम मिलाउनुहोस्।

- A. स्वर्ग र देवता
- B. आगो र पानी
- C. बहुलाहाले
- D. विसो चुहो
- E. फुटेको फूलदान

तलका विकल्पबाट सही उत्तर छान्नुहोस् :

- 1. D,A,E,C,B
- 2. E,B,D,A,C
- 3. B,D,E,C,A
- 4. A,C,B,E,D

**Options :**

- 485584149213. 1
- 485584149214. 2
- 485584149215. 3
- 485584149216. 4

**Question Number : 710 Question Id : 48558437305 Question Type : MCQ Option Shuffling : No Is Question Mandatory : No Calculator : None Response Time : N.A Think Time : N.A Minimum Instruction Time : 0**

**Correct Marks : 5 Wrong Marks : 1**

**Question Key Details :**

Key	Value
Comprehension	MCQ

प्रकाशन कालका दृष्टिले भीमनिधि तिवारीका नाटकहरूको क्रम मिलाउनुहोस्।

- A. आदर्श जीवन
- B. पुतली
- C. किसान
- D. सहनशीला सुशीला
- E. सत्य हरिश्चन्द्र

तलका विकल्पबाट सही उत्तर छान्नुहोस् :

- 1. B,D,A,E,C
- 2. C,B,E,A,D
- 3. D,B,C,A,E
- 4. A,D,B,C,E

**Options :**

- 485584149217. 1
- 485584149218. 2
- 485584149219. 3
- 485584149220. 4

**Question Number : 711 Question Id : 48558437306 Question Type : MCQ Option Shuffling : No Is Question Mandatory : No Calculator : None Response Time : N.A Think Time : N.A Minimum Instruction Time : 0**

**Correct Marks : 5 Wrong Marks : 1**

**Question Key Details :**

Key	Value
Comprehension	MCQ

सिक्किमको नामग्याल वंशावलीको क्रम मिलाउनुहोस्।

- A. चुङ्गफोद नामग्याल
- B. फुन्ची नामग्याल
- C. ग्युर्मद नामग्याल
- D. चाग्दोर नामग्याल
- E. तेन्सुङ नामग्याल

सही विकल्प छान्नुहोस् :

- 1. B,E,D,C,A
- 2. B,D,E,C,A
- 3. D,E,C,B,A
- 4. C,D,B,E,A

**Options :**

- 485584149221. 1
- 485584149222. 2
- 485584149223. 3
- 485584149224. 4

**Question Number : 712 Question Id : 48558437307 Question Type : MCQ Option Shuffling : No Is Question Mandatory : No Calculator : None Response Time : N.A Think Time : N.A Minimum Instruction Time : 0**

**Correct Marks : 5 Wrong Marks : 1**

**Question Key Details :**

Key	Value
Comprehension	MCQ

सानु लामाकृत कथा संग्रह 'कथा-सम्यद' - मा सङ्कलित कथाहरूको सही क्रम मिलाउनुहोस्।

- A. फूर्बले गाउँ छोड्यो
- B. असिनाको मान्छे
- C. अनुकम्पा
- D. स्वास्तीमान्छे
- E. पहाडी फूल, काँडाके माझ

तलका विकल्पबाट सही उत्तर छान्नुहोस् :

- 1. B,D,E,A,C
- 2. A,C,B,D,E
- 3. E,A,D,C,B
- 4. D,E,C,A,B

**Options :**

- 485584149225. 1
- 485584149226. 2
- 485584149227. 3
- 485584149228. 4

**Question Number : 713 Question Id : 48558437308 Question Type : MCQ Option Shuffling : No Is Question Mandatory : No Calculator : None Response Time : N.A Think Time : N.A Minimum Instruction Time : 0**

**Correct Marks : 5 Wrong Marks : 1**

**Question Key Details :**

Key	Value
Comprehension	MCQ

समासका प्रकारको सही क्रम मिलाउनुहोस्।

- A. द्वन्द्व समास
- B. अव्ययीभाव समास
- C. बहुव्रीहि समास
- D. द्विगु समास
- E. कर्मधारय समास

तलका विकल्पबाट सही उत्तर छान्नुहोस् :

- 1. D,A,C,B,E
- 2. B,E,D,A,C
- 3. C,B,A,D,E
- 4. A,D,C,E,B

Options :

- 485584149229. 1
- 485584149230. 2
- 485584149231. 3
- 485584149232. 4

Question Number : 714 Question Id : 48558437309 Question Type : MCQ Option Shuffling : No Is Question Mandatory : No Calculator : None  
Response Time : N.A Think Time : N.A Minimum Instruction Time : 0  
Correct Marks : 5 Wrong Marks : 1

Question Key Details :

Key	Value
Comprehension	MCQ

तलका शब्दहरूलाई सही क्रममा राखेर उखान रचनामा लेख्नुहोस्।

- A. ढेडु
- B. जस पाउने
- C. हनुमान
- D. लङ्का
- E. माने

- 1. C,E,A,D,B
- 2. A,E,C,B,D
- 3. B,A,D,E,C
- 4. D,E,C,B,A

Options :

- 485584149233. 1
- 485584149234. 2
- 485584149235. 3
- 485584149236. 4

Question Number : 715 Question Id : 48558437310 Question Type : MCQ Option Shuffling : No Is Question Mandatory : No Calculator : None  
Response Time : N.A Think Time : N.A Minimum Instruction Time : 0  
Correct Marks : 5 Wrong Marks : 1

Question Key Details :

Key	Value
Comprehension	MCQ

पर्यायवाची शब्दहरूः सूची I लाई सूची II सित मिलाउनुहोस्।

सूची I	सूची II
A. कमल	I. मेषा, मनीषा, प्रज्ञा
B. चन्द्रमा	II. जलज, नीरज, राजीव
C. धन	III. षाशि, सोम, इन्द्र
D. द्विद्धि	IV. अर्थ, लक्ष्मी, श्री

तलका विकल्पबाट सही उत्तर छान्नुहोस् :

1. A-I, B-IV, C-III, D-II
2. A-II, B-IV, C-III, D-I
3. A-II, B-III, C-IV, D-I
4. A-III, B-I, C-II, D-IV

Options :

485584149237. 1  
485584149238. 2  
485584149239. 3  
485584149240. 4

Question Number : 716 Question Id : 48558437311 Question Type : MCQ Option Shuffling : No Is Question Mandatory : No Calculator : None  
Response Time : N.A Think Time : N.A Minimum Instruction Time : 0  
Correct Marks : 5 Wrong Marks : 1

Question Key Details :

Key	Value
Comprehension	MCQ

सूची I का लेखक र सूची II का उपन्यासको सही जोडा मिलाउनुहोस्।

सूची I	सूची II
A. भन्छन राई 'रमिक'	I. बसाई
B. लोनसिंह बाइदेल	II. शगन
C. लीलबहादुर छेत्री	III. कुनेली रेखा
D. इन्द्र सुन्दास	IV. मलुक बाहिर

तलका विकल्पबाट सही उत्तर छान्नुहोस्।

1. A-II, B-I, C-IV, D-III
2. A-II, B-IV, C-I, D-III
3. A-I, B-III, C-II, D-IV
4. A-IV, B-I, C-III, D-II

Options :

485584149241. 1  
485584149242. 2  
485584149243. 3  
485584149244. 4

Question Number : 717 Question Id : 48558437312 Question Type : MCQ Option Shuffling : No Is Question Mandatory : No Calculator : None  
Response Time : N.A Think Time : N.A Minimum Instruction Time : 0  
Correct Marks : 5 Wrong Marks : 1

Question Key Details :

Key	Value
Comprehension	MCQ

छन्द र यसका लक्षण चिनेर सूची I लाई सूची II सित मिलाउनुहोस्।

सूची I	सूची II
A. शिखरिणी	I. स स स स
B. स्वागता	II. प्र म न स भ ल गु
C. ह्रीटक	III. त त ज गु गु
D. इन्द्रकला	IV. र न भ गु गु

तलका विकल्पबाट सही उत्तर छान्नुहोस् :

1. A-III, B-IV, C-I, D-II
2. A-III, B-I, C-IV, D-II
3. A-I, B-III, C-II, D-IV
4. A-IV, B-II, C-I, D-III

Options :

485584149245. 1  
485584149246. 2  
485584149247. 3  
485584149248. 4

Question Number : 718 Question Id : 48558437313 Question Type : MCQ Option Shuffling : No Is Question Mandatory : No Calculator : None  
Response Time : N.A Think Time : N.A Minimum Instruction Time : 0  
Correct Marks : 5 Wrong Marks : 1

Question Key Details :

Key	Value
Comprehension	MCQ

सूची I का कवि सूची II का कुन काव्यधारासित सम्बद्ध छन् ?

सूची I	सूची II
A. सुवानन्ददास	I. राम भक्तिधारा
B. इन्दिरस	II. निर्गुण भक्तिधारा
C. भानुभक्त आचार्य	III. कृष्ण भक्तिधारा
D. ज्ञानदत्त दास	IV. वीरधारा

तलका विकल्पबाट सही उत्तर छान्नुहोस् :

1. A-IV, B-III, C-I, D-II
2. A-II, B-I, C-IV, D-III
3. A-III, B-II, C-I, D-IV
4. A-I, B-III, C-IV, D-II

Options :

485584149249. 1  
485584149250. 2  
485584149251. 3  
485584149252. 4

Question Number : 719 Question Id : 48558437314 Question Type : MCQ Option Shuffling : No Is Question Mandatory : No Calculator : None  
Response Time : N.A Think Time : N.A Minimum Instruction Time : 0  
Correct Marks : 5 Wrong Marks : 1

Question Key Details :

Key	Value
Comprehension	MCQ



सूची I का पुस्तकहरू सूची II का कुन विधासित सम्बन्धित छन् ?

सूची I	सूची II
A. मेरो नुहाउने कोठा	I. नाटक
B. रूपको मृत्यु	II. जीवनी
C. मेरो कवित्तको आराधना	III. कथा
D. मुटुको व्यथा	IV. कविता

तलका विकल्पबाट सही उत्तर छान्नुहोस्।

1. A-I, B-II, C-III, D-IV
2. A-IV, B-III, C-II, D-I
3. A-I, B-III, C-IV, D-II
4. A-II, B-IV, C-I, D-III

Options :

485584149253. 1  
485584149254. 2  
485584149255. 3  
485584149256. 4

Question Number : 720 Question Id : 48558437315 Question Type : MCQ Option Shuffling : No Is Question Mandatory : No Calculator : None  
Response Time : N.A Think Time : N.A Minimum Instruction Time : 0

Correct Marks : 5 Wrong Marks : 1

Question Key Details :

Key	Value
Comprehension	MCQ

सूची I र सूची II मा दिइएका निबन्धकार र निबन्धको सही जोडा मिलाउनुहोस्।

सूची I	सूची II
A. बालकृष्ण सम	I. पवित्रा कुराहरू
B. लक्ष्मीप्रसाद देवकोटा	II. स्कूल जीवन
C. पारसमणि प्रधान	III. नेपाली संस्कृति
D. राज्ञाप्रसाद प्रधान	IV. नेपाली हाम्रो मातृभाषा

तलका विकल्पबाट सही उत्तर छान्नुहोस्।

1. A-IV, B-II, C-I, D-III
2. A-II, B-IV, C-III, D-I
3. A-I, B-III, C-II, D-IV
4. A-III, B-I, C-IV, D-II

Options :

485584149257. 1  
485584149258. 2  
485584149259. 3  
485584149260. 4

Question Number : 721 Question Id : 48558437316 Question Type : MCQ Option Shuffling : No Is Question Mandatory : No Calculator : None  
Response Time : N.A Think Time : N.A Minimum Instruction Time : 0

Correct Marks : 5 Wrong Marks : 1

Question Key Details :

Key	Value
Comprehension	MCQ

सार शब्द अर्थ: सूची I लाई सूची II सित मिलाउनुहोस्।

सूची I	सूची II
A. अजर	I. कपासको पोटीबाट वियौ छुट्याउने साधन
B. आलौचना	II. जो कहिल्यै पुरानो हुँदैन
C. इष्ट	III. गुण दोष फेलाउने काम
D. सुईटी	IV. भला चाहने व्यक्ति

तलका विकल्पबाट सही उत्तर छान्नुहोस्।

1. A-I, B-III, C-II, D-IV
2. A-II, B-III, C-IV, D-I
3. A-II, B-IV, C-III, D-I
4. A-III, B-II, C-I, D-IV

Options :

485584149261. 1  
485584149262. 2  
485584149263. 3  
485584149264. 4

Question Number : 722 Question Id : 48558437317 Question Type : MCQ Option Shuffling : No Is Question Mandatory : No Calculator : None  
Response Time : N.A Think Time : N.A Minimum Instruction Time : 0  
Correct Marks : 5 Wrong Marks : 1

Question Key Details :

Key	Value
Comprehension	MCQ

बोल्ने लेख्ने वा क्रिया गर्ने व्यक्ति वा आफैलाई बोध गराउने सर्वनामलाई के भनिन्छ?

1. प्रथम पुरुष सर्वनाम
2. द्वितीय पुरुष सर्वनाम
3. तृतीय पुरुष सर्वनाम
4. सम्बन्धवाचक सर्वनाम

Options :

485584149265. 1  
485584149266. 2  
485584149267. 3  
485584149268. 4

Question Number : 723 Question Id : 48558437318 Question Type : MCQ Option Shuffling : No Is Question Mandatory : No Calculator : None  
Response Time : N.A Think Time : N.A Minimum Instruction Time : 0

Correct Marks : 5 Wrong Marks : 1

Question Key Details :

Key	Value
Comprehension	MCQ

घनश्याम नेपाललिखित 'आख्यानका कुरा' पुस्तकमा राखिएका आख्यानका तत्त्वहरूको क्रम मिलाउनुहोस्।

- A. दृष्टिकोण
- B. विचार तत्त्व
- C. प्रतीक र विम्ब
- D. कथावस्तु
- E. पात्र

सही विकल्प छात्रोहोस् :

1. D,E,B,A,C

2. B,A,C,E,D

3. E,B,D,C,A

4. C,E,A,B,D

**Options :**

- 485584149269. 1
- 485584149270. 2
- 485584149271. 3
- 485584149272. 4

**Question Number : 724 Question Id : 48558437319 Question Type : MCQ Option Shuffling : No Is Question Mandatory : No Calculator : None Response Time : N.A Think Time : N.A Minimum Instruction Time : 0**

**Correct Marks : 5 Wrong Marks : 1**

**Question Key Details :**

Key	Value
Comprehension	MCQ

'रूपको मूल्य' -कथाका कथाकार को हुन्?

- 1. लक्ष्मीप्रसाद देवकोटा
- 2. बालकृष्ण सम
- 3. रूपनारायण सिंह
- 4. विश्वेश्वरप्रसाद कोइराला

**Options :**

- 485584149273. 1
- 485584149274. 2
- 485584149275. 3
- 485584149276. 4

**Question Number : 725 Question Id : 48558437320 Question Type : MCQ Option Shuffling : No Is Question Mandatory : No Calculator : None Response Time : N.A Think Time : N.A Minimum Instruction Time : 0**

**Correct Marks : 5 Wrong Marks : 1**

**Question Key Details :**

Key	Value
Comprehension	MCQ

प्रत्येक पुष्पको रूप, रेखा, रङ्ग अनेक छ।  
तर सौन्दर्य ज्योति उनमा भिन्न एक छ ॥

यहाँ पुष्पको सौन्दर्यलाई के को समान देखाइएको छ?

1. मानवको रूप समान
2. मानवको भित्री भावना समान
3. मानव मनको सौन्दर्य समान
4. मानवको विचार समान

**Options :**

485584149277. 1

485584149278. 2

485584149279. 3

485584149280. 4

**Question Number : 726 Question Id : 48558437321 Question Type : MCQ Option Shuffling : No Is Question Mandatory : No Calculator : None  
Response Time : N.A Think Time : N.A Minimum Instruction Time : 0**

**Correct Marks : 5 Wrong Marks : 1**

**Question Key Details :**

Key	Value
Comprehension	MCQ

"मध्यरातमा दुनियाँ बिचेत भएको बेलामा मालिनीले जसलाई आफ्नो अगुवा बनाएर मेकी कमानबाट बिदा लिई।" मेकी कमानबाट बिदा लिने कारण के थियो?

1. जससित विवाह गर्न
2. कमानको कमानबाट असन्तुष्टि
3. साहेबको छोकठी हुनु दिएको अस्विकृति
4. लोभ्रेको मृत्युको पीडा

**Options :**

485584149281. 1

485584149282. 2

485584149283. 3

485584149284. 4

**Question Number : 727 Question Id : 48558437322 Question Type : MCQ Option Shuffling : No Is Question Mandatory : No Calculator : None  
Response Time : N.A Think Time : N.A Minimum Instruction Time : 0**

**Correct Marks : 5 Wrong Marks : 1**

**Question Key Details :**

Key	Value
Comprehension	MCQ

"पानीले जाडो असाध्यै जागेको भए तापनि हृदयमा आशाको गर्मी त्यसले अनुभव गरिरहेथ्यो।"  
"माछाको मोल" - मा रनेलाई कस्तो आशा लागेको थियो?

1. बिहे हुने
2. धेरै नाफा कमाउने
3. धेरै माछा मार्ने
4. छोरोको बाबु हुने

**Options :**

485584149285. 1  
485584149286. 2  
485584149287. 3  
485584149288. 4

**Question Number : 728 Question Id : 48558437323 Question Type : MCQ Option Shuffling : No Is Question Mandatory : No Calculator : None**  
**Response Time : N.A Think Time : N.A Minimum Instruction Time : 0**

**Correct Marks : 5 Wrong Marks : 1**

**Question Key Details :**

Key	Value
Comprehension	MCQ

संस्कृत भाषाबाट सोझै आएका शब्दलाई के भनिन्छ?

1. तद्भव
2. तत्सम
3. आगन्तुक
4. झर्ना

**Options :**

485584149289. 1  
485584149290. 2  
485584149291. 3  
485584149292. 4

**Question Number : 729 Question Id : 48558437324 Question Type : MCQ Option Shuffling : No Is Question Mandatory : No Calculator : None**  
**Response Time : N.A Think Time : N.A Minimum Instruction Time : 0**

**Correct Marks : 5 Wrong Marks : 1**

**Question Key Details :**

Key	Value
Comprehension	MCQ

तलका विकल्पमध्ये 'लक्ष्मी' को सही पर्यायवाची शब्द-समूह छान्नुहोस्।

1. उमा, गिरिजा, गौरी
2. गिरा, श्वेताम्बरा, शारदा
3. रमा, गौरी, शिवा
4. रमा, कमला, पद्मा

**Options :**

485584149293. 1  
485584149294. 2  
485584149295. 3  
485584149296. 4

**Question Number : 730 Question Id : 48558437325 Question Type : MCQ Option Shuffling : No Is Question Mandatory : No Calculator : None**  
**Response Time : N.A Think Time : N.A Minimum Instruction Time : 0**

**Correct Marks : 5 Wrong Marks : 1**

**Question Key Details :**

Key	Value
Comprehension	MCQ

तलका विकल्पमध्ये 'निर्जन' को सही पर्यायवाची शब्द-समूह छानुहोस् :-

1. एकलास, शून्य, एकान्त
2. शून्य, निशब्द, नीरव
3. निस्तब्ध, निराकार, एकान्त
4. अचल, एकलास, स्थिर

**Options :**

485584149297. 1  
485584149298. 2  
485584149299. 3  
485584149300. 4

**Question Number : 731 Question Id : 48558437326 Question Type : MCQ Option Shuffling : No Is Question Mandatory : No Calculator : None Response Time : N.A Think Time : N.A Minimum Instruction Time : 0**

**Correct Marks : 5 Wrong Marks : 1**

**Question Key Details :**

Key	Value
Comprehension	MCQ

तलका विकल्पमध्ये 'पृथ्वी' को सही पर्यायवाची शब्द-समूह छानुहोस्।

1. महीधर, भूधर, अचल
2. शिला, प्रस्तर, पाषाण
3. तसुन्धरा, अचला, धरणी
4. धाम, अचला, भूधर

**Options :**

485584149301. 1  
485584149302. 2  
485584149303. 3  
485584149304. 4

**Question Number : 732 Question Id : 48558437327 Question Type : MCQ Option Shuffling : No Is Question Mandatory : No Calculator : None Response Time : N.A Think Time : N.A Minimum Instruction Time : 0**

**Correct Marks : 5 Wrong Marks : 1**

**Question Key Details :**

Key	Value
Comprehension	MCQ

तलका विकल्पमध्ये 'जल' को सही पर्यायवाची शब्द-समूह छानुहोस्।

1. सुधा, पीयूष, अम्बु
2. पानी, नीर, अम्बु
3. जलज, उत्पल, अम्बुज
4. मेघ, पयोधर, जलधि

**Options :**

485584149305. 1  
485584149306. 2  
485584149307. 3  
485584149308. 4

Question Number : 733 Question Id : 48558437328 Question Type : MCQ Option Shuffling : No Is Question Mandatory : No Calculator : None  
Response Time : N.A Think Time : N.A Minimum Instruction Time : 0  
Correct Marks : 5 Wrong Marks : 1

Question Key Details :

Key	Value
Comprehension	MCQ

तलका विकल्पमध्ये 'सत्य' को सही विपरीतार्थक शब्द छान्नुहोस्।

1. मिथ्या
2. अधम
3. अपकीर्ति
4. मूर्ख

Options :

485584149309. 1  
485584149310. 2  
485584149311. 3  
485584149312. 4

Question Number : 734 Question Id : 48558437329 Question Type : MCQ Option Shuffling : No Is Question Mandatory : No Calculator : None  
Response Time : N.A Think Time : N.A Minimum Instruction Time : 0  
Correct Marks : 5 Wrong Marks : 1

Question Key Details :

Key	Value
Comprehension	MCQ

तलका विकल्पमध्ये 'अनुकूल' को सही विपरीतार्थक शब्द छान्नुहोस्।

1. आदान
2. प्रदान
3. प्रतिकूल
4. अनुत्तीर्ण

Options :

485584149313. 1  
485584149314. 2  
485584149315. 3  
485584149316. 4

Question Number : 735 Question Id : 48558437330 Question Type : MCQ Option Shuffling : No Is Question Mandatory : No Calculator : None  
Response Time : N.A Think Time : N.A Minimum Instruction Time : 0  
Correct Marks : 5 Wrong Marks : 1

Question Key Details :

Key	Value
Comprehension	MCQ

तलका विकल्पमध्ये 'उत्कृष्ट' को सही विपरीतार्थक शब्द छात्राहोस्।

1. कृत्रिम
2. निकृष्ट
3. सरल
4. सार्धक

**Options :**

485584149317. 1

485584149318. 2

485584149319. 3

485584149320. 4