

# National Testing Agency

Question Paper Name: 01-31082023  
Subject Name: 21Jun2023 Shift1 Subject Combination 1  
Creation Date: 2023-06-21 13:31:13  
Duration: 285  
Total Marks: 1250  
Display Marks: Yes

## English

Group Number: 1  
Group Id: 112807640  
Group Maximum Duration: 45  
Group Minimum Duration: 45  
Show Attended Group?: No  
Edit Attended Group?: No  
Break time: 0  
Group Marks: 200  
Is this Group for Examiner?: No  
Examiner permission: Can View  
Show Program Bar?: No

## English

Section Id: 112807748  
Section Number: 1  
Section type: Online  
Mandatory or Optional: Mandatory  
Number of Questions: 50  
Number of Questions to be attempted: 40  
Section Marks: 200  
Enable Mark as Answered Mark for Review and Clear Response: Yes  
Maximum Instruction Time: 0  
Sub-Section Number: 1  
Sub-Section Id: 1128077141  
Question Shuffling Allowed: No  
Is Section Default?: null

Question Number: 1 Question Id: 11280729566 Question Type: MCQ Option Shuffling: No Is Question Mandatory: No Calculator: None  
Response Time: N.A Think Time: N.A Minimum Instruction Time: 0

Correct Marks: 5 Wrong Marks: 1

Question Key Details:

Key	Value
Comprehension	Compl

Then one day there passed by that way a Pashupata ascetic. And he said to the Brahman : "My son, what are you doing here ?" So he replied. : "Reverend Sir, I am performing penance, for the expiation of sin, on the banks of the Ganges." Then the ascetic said : "What has this miserable puddle to do with the Ganges." And the Brahman said : "Is this then, not the Ganges ?" And the ascetic laughed in his face, and said : "Truly, old as I am, I did not think that there had been folly like this in the world. Wretched man, who has deluded you ? The Ganges is hundreds of miles away, and resembles this contemptible brook no more than Mount Meru resembles an ant-hill." Then the Brahman said : "Reverend Sir, I am much obliged to you." And taking his pot and staff, he went forward, till at length he came to a broad river. And he rejoiced greatly, saying ; "This must be the sacred Ganges." So he settled on its banks and remained there for five years, bathing every day in its waters. Then one day there came by a Kapalika, who said to him, "Why do you remain here, wasting precious time over a river of no account or sanctity, instead of going to the Ganges ?" But the Brahman was amazed, and said : "And is this, then not the Ganges ?" Then the Kapalika replied : "This is the Ganges! Is a jackal, lion or a Chandala a Brahman ? Sir, you are dreaming. "Then the Brahman sighed deeply. And he said, "Sir, I am enlightened by you". And he took his pot and staff, and went forward.

But he was now very old and feeble. And long penance had weakened his frame and exhausted his energies. And as he toiled on in the heat of the day over the burning earth, the sun beat on his head like the thunderbolt of Indra, and struck him with fever. Still he gathered himself together and struggled on, growing weaker and weaker day by day, till at last he got no further, but fell down and lay dying on the ground. But collecting all his remaining strength, with a last desperate effort he dragged himself up a low hill in front of him. And lo! there before him rolled the mighty stream of Ganges, with countless numbers of pilgrims doing penance on its banks and bathing in its stream. And in his agony he cried aloud : "O Mother Ganges ! alas ! alas ! I have pursued you all my life and now I die here helpless in sight of you." So his heart broke, and he never reached its shore.

F.W. Bain

What was the name of the ascetic who was talking to the Brahman ?

- (1) Brahmadata
- (2) Pashupata
- (3) Saumyadata
- (4) Pushpata

Options :

- 212807118341-1
- 212807118342-2
- 212807118343-3
- 212807118344-4

Question Number : 2 Question Id : 21280719587 Question Type : MCQ Option Shuffling : No Is Question Mandatory : No Calculator : None  
Response Time : N.A Think Time : N.A Minimum Instruction Time : 0

Correct Marks : 5 Wrong Marks : 1

Question Key Details :

Key	Value
Comprehension	Compl

Then one day there passed by that way a Pashupata ascetic. And he said to the Brahman : "My son, what are you doing here ?" So he replied. : "Reverend Sir, I am performing penance, for the expiation of sin, on the banks of the Ganges." Then the ascetic said : "What has this miserable puddle to do with the Ganges." And the Brahman said : "Is this then, not the Ganges ?" And the ascetic laughed in his face, and said : "Truly, old as I am, I did not think that there had been folly like this in the world. Wretched man, who has deluded you ? The Ganges is hundreds of miles away, and resembles this contemptible brook no more than Mount Meru resembles an ant-hill." Then the Brahman said : "Reverend Sir, I am much obliged to you." And taking his pot and staff, he went forward, till at length he came to a broad river. And he rejoiced greatly, saying ; "This must be the sacred Ganges." So he settled on its banks and remained there for five years, bathing every day in its waters. Then one day there came by a Kapalika, who said to him, "Why do you remain here, wasting precious time over a river of no account or sanctity, instead of going to the Ganges ?" But the Brahman was amazed, and said : "And is this, then not the Ganges ?" Then the Kapalika replied : "This is the Ganges! Is a jackal, lion or a Chandala a Brahman ? Sir, you are dreaming. "Then the Brahman sighed deeply. And he said, "Sir, I am enlightened by you". And he took his pot and staff, and went forward.

But he was now very old and feeble. And long penance had weakened his frame and exhausted his energies. And as he toiled on in the heat of the day over the burning earth, the sun beat on his head like the thunderbolt of Indra, and struck him with fever. Still he gathered himself together and struggled on, growing weaker and weaker day by day, till at last he got no further, but fell down and lay dying on the ground. But collecting all his remaining strength, with a last desperate effort he dragged himself up a low hill in front of him. And lo! there before him rolled the mighty stream of Ganges, with countless numbers of pilgrims doing penance on its banks and bathing in its stream. And in his agony he cried aloud : "O Mother Ganges ! alas ! alas ! I have pursued you all my life and now I die here helpless in sight of you." So his heart broke, and he never reached its shore.

F.W. Bain

Who said, "I am performing penance, for the expiation of sin ...."

- (1) The Brahman
- (2) Pashupata ascetic
- (3) The Kapalika
- (4) Brahma-datta

Options :

- 212807118345 1  
 212807118346 2  
 212807118347 3  
 212807118348 4

Question Number : 3 Question Id : 21280719555 Question Type : MCQ Option Shuffling : No Is Question Mandatory : No Calculator : None  
 Response Time : N.A Think Time : N.A Minimum Instruction Time : 0

Correct Marks : 5 Wrong Marks : 1

Question Key Details :

Key	Value
Comprehension	Compl

Then one day there passed by that way a Pashupata ascetic. And he said to the Brahman : "My son, what are you doing here ?" So he replied. : "Reverend Sir, I am performing penance, for the expiation of sin, on the banks of the Ganges." Then the ascetic said : "What has this miserable puddle to do with the Ganges." And the Brahman said : "Is this then, not the Ganges ?" And the ascetic laughed in his face, and said : "Truly, old as I am, I did not think that there had been folly like this in the world. Wretched man, who has deluded you ? The Ganges is hundreds of miles away, and resembles this contemptible brook no more than Mount Meru resembles an ant-hill." Then the Brahman said : "Reverend Sir, I am much obliged to you." And taking his pot and staff, he went forward, till at length he came to a broad river. And he rejoiced greatly, saying ; "This must be the sacred Ganges." So he settled on its banks and remained there for five years, bathing every day in its waters. Then one day there came by a Kapalika, who said to him, "Why do you remain here, wasting precious time over a river of no account or sanctity, instead of going to the Ganges ?" But the Brahman was amazed, and said : "And is this, then not the Ganges ?" Then the Kapalika replied : "This is the Ganges! Is a jackal, lion or a Chandala a Brahman ? Sir, you are dreaming. "Then the Brahman sighed deeply. And he said, "Sir, I am enlightened by you". And he took his pot and staff, and went forward.

But he was now very old and feeble. And long penance had weakened his frame and exhausted his energies. And as he toiled on in the heat of the day over the burning earth, the sun beat on his head like the thunderbolt of Indra, and struck him with fever. Still he gathered himself together and struggled on, growing weaker and weaker day by day, till at last he got no further, but fell down and lay dying on the ground. But collecting all his remaining strength, with a last desperate effort he dragged himself up a low hill in front of him. And lo! there before him rolled the mighty stream of Ganges, with countless numbers of pilgrims doing penance on its banks and bathing in its stream. And in his agony he cried aloud : "O Mother Ganges ! alas ! alas ! I have pursued you all my life and now I die here helpless in sight of you." So his heart broke, and he never reached its shore.

F.W. Bain

Who was carrying a pot ?

- (1) The Kapalika
- (2) Pashupata ascetic
- (3) The Brahman
- (4) Brahmadutta

Options :

- 212807118349-1  
 212807118350-2  
 212807118351-3  
 212807118352-4

Question Number : 4 Question Id : 21280719559 Question Type : MCQ Option Shuffling : No Is Question Mandatory : No Calculator : None  
 Response Time : N.A Think Time : N.A Minimum Instruction Time : 0

Correct Marks : 5 Wrong Marks : 1

Question Key Details :

Key	Value
Comprehension	Compl

Then one day there passed by that way a Pashupata ascetic. And he said to the Brahman : "My son, what are you doing here ?" So he replied. : "Reverend Sir, I am performing penance, for the expiation of sin, on the banks of the Ganges." Then the ascetic said : "What has this miserable puddle to do with the Ganges." And the Brahman said : "Is this then, not the Ganges ?" And the ascetic laughed in his face, and said : "Truly, old as I am, I did not think that there had been folly like this in the world. Wretched man, who has deluded you ? The Ganges is hundreds of miles away, and resembles this contemptible brook no more than Mount Meru resembles an ant-hill." Then the Brahman said : "Reverend Sir, I am much obliged to you." And taking his pot and staff, he went forward, till at length he came to a broad river. And he rejoiced greatly, saying ; "This must be the sacred Ganges." So he settled on its banks and remained there for five years, bathing every day in its waters. Then one day there came by a Kapalika, who said to him, "Why do you remain here, wasting precious time over a river of no account or sanctity, instead of going to the Ganges ?" But the Brahman was amazed, and said : "And is this, then not the Ganges ?" Then the Kapalika replied : "This is the Ganges! Is a jackal, lion or a Chandala a Brahman ? Sir, you are dreaming. "Then the Brahman sighed deeply. And he said, "Sir, I am enlightened by you". And he took his pot and staff, and went forward.

But he was now very old and feeble. And long penance had weakened his frame and exhausted his energies. And as he toiled on in the heat of the day over the burning earth, the sun beat on his head like the thunderbolt of Indra, and struck him with fever. Still he gathered himself together and struggled on, growing weaker and weaker day by day, till at last he got no further, but fell down and lay dying on the ground. But collecting all his remaining strength, with a last desperate effort he dragged himself up a low hill in front of him. And lo! there before him rolled the mighty stream of Ganges, with countless numbers of pilgrims doing penance on its banks and bathing in its stream. And in his agony he cried aloud : "O Mother Ganges ! alas ! alas ! I have pursued you all my life and now I die here helpless in sight of you." So his heart broke, and he never reached its shore.

F.W. Bain

Why was the Brahman performing a penance ?

- (1) for the expiation of sin.
- (2) for a massing wealth
- (3) for happiness
- (4) for becoming the most powerful person

Options :

- 212807118353-1
- 212807118354-2
- 212807118355-3
- 212807118356-4

Question Number : 5 Question Id : 21280719590 Question Type : MCQ Option Shuffling : No Is Question Mandatory : No Calculator : None  
Response Time : N.A Think Time : N.A Minimum Instruction Time : 0

Correct Marks : 5 Wrong Marks : 1

Question Key Details :

Key	Value
Comprehension	Compl

Then one day there passed by that way a Pashupata ascetic. And he said to the Brahman : "My son, what are you doing here ?" So he replied. : "Reverend Sir, I am performing penance, for the expiation of sin, on the banks of the Ganges." Then the ascetic said : "What has this miserable puddle to do with the Ganges." And the Brahman said : "Is this then, not the Ganges ?" And the ascetic laughed in his face, and said : "Truly, old as I am, I did not think that there had been folly like this in the world. Wretched man, who has deluded you ? The Ganges is hundreds of miles away, and resembles this contemptible brook no more than Mount Meru resembles an ant-hill." Then the Brahman said : "Reverend Sir, I am much obliged to you." And taking his pot and staff, he went forward, till at length he came to a broad river. And he rejoiced greatly, saying ; "This must be the sacred Ganges." So he settled on its banks and remained there for five years, bathing every day in its waters. Then one day there came by a Kapalika, who said to him, "Why do you remain here, wasting precious time over a river of no account or sanctity, instead of going to the Ganges ?" But the Brahman was amazed, and said : "And is this, then not the Ganges ?" Then the Kapalika replied : "This is the Ganges! Is a jackal, lion or a Chandala a Brahman ? Sir, you are dreaming. "Then the Brahman sighed deeply. And he said, "Sir, I am enlightened by you". And he took his pot and staff, and went forward.

But he was now very old and feeble. And long penance had weakened his frame and exhausted his energies. And as he toiled on in the heat of the day over the burning earth, the sun beat on his head like the thunderbolt of Indra, and struck him with fever. Still he gathered himself together and struggled on, growing weaker and weaker day by day, till at last he got no further, but fell down and lay dying on the ground. But collecting all his remaining strength, with a last desperate effort he dragged himself up a low hill in front of him. And lo! there before him rolled the mighty stream of Ganges, with countless numbers of pilgrims doing penance on its banks and bathing in its stream. And in his agony he cried aloud : "O Mother Ganges ! alas ! alas ! I have pursued you all my life and now I die here helpless in sight of you." So his heart broke, and he never reached its shore.

F.W. Bain

The sun heat on the Brahman's head like \_\_\_\_\_.

- (1) a shining sword
- (2) the thunderbolt of Indra
- (3) a heavy hammer
- (4) a bright star

Options :

212807118387-1

212807118358-2

212807118359-3

212807118360-4

Sub-Section Number :

2

Sub-Section Id :

2128072142

Question Shuffling Allowed :

No

Is Section Default? :

nil

Question Number : 6 Question Id : 21280729591 Question Type : MCQ Option Shuffling : No Is Question Mandatory : No Calculator : None

Response Time : N.A Think Time : N.A Minimum Instruction Time : 0

Correct Marks : 5 Wrong Marks : 1

Question Key Details :

Key	Value
Comprehension	Comp2

Students will be taught at a young age the importance of “doing what’s right”, and will be given a logical framework for making ethical decisions. In later years, this would then be expanded along themes of cheating, violence, plagiarism, littering, tolerance, equality, empathy, etc., with a view to enabling children to embrace moral/ethical values in conducting one’s life, formulate a position/argument about an ethical issue from multiple perspectives, and use ethical practices in all work. As consequences of such basic ethical reasoning, traditional Indian values and all basic human and Constitutional values (such as *seva, ahimsa, swachchhata, satya, nishkam karma, shanti*, sacrifice, tolerance, diversity, pluralism, righteous conduct, gender sensitivity, respect for elders, respect for all people and their inherent capabilities regardless of background, respect for environment, helpfulness, courtesy, patience, forgiveness, empathy, compassion, patriotism, democratic outlook, integrity, responsibility, justice, liberty, equality, and fraternity) will be developed in all students. Children will have the opportunity to read and learn from the original stories of the Panchatantra, Jataka, Hitopadesh, and other fun fables and inspiring tales from the Indian tradition and learn about their influences on global literature. Excerpts from the Indian Constitution will also be considered essential reading for all students. Basic training in health, including preventive health, mental health, good nutrition, personal and public hygiene, disaster response and first-aid will also be included in the curriculum, as well as scientific explanations of the detrimental and damaging effects of alcohol, tobacco, and other drugs.

All curriculum and pedagogy, from the foundational stage onwards, will be redesigned to be strongly rooted in the Indian and local context and ethos in terms of culture, traditions, heritage, customs, language, philosophy, geography, ancient and contemporary knowledge, societal and scientific needs, indigenous and traditional ways of learning etc. - in order to ensure that education is maximally relatable, relevant, interesting, and effective for our students. Stories, arts, games, sports, examples, problems, etc. will be chosen as much as possible to be rooted in the Indian and local geographic context. Ideas, abstractions, and creativity will indeed best flourish when learning is thus rooted.

Why do we need to redesign all curriculum and pedagogy in terms of culture, heritage and traditions at a foundational level ?

- (1) to ensure maximisation of national pride
- (2) to avoid the damaging and detrimental effects of global learning
- (3) to ensure that education is maximally relatable, relevant and interesting for students
- (4) to ensure that ideas, abstraction and creativity are confined to higher-educations

Options :

- 212507118361-1
- 212507118362-2
- 212507118363-3
- 212507118364-4

Question Number : 7 Question Id : 21250719592 Question Type : MCQ Option Shuffling : No Is Question Mandatory : No Calculator : None  
Response Time : N.A Think Time : N.A Minimum Instruction Time : 0

Correct Marks : 5 Wrong Marks : 1

Question Key Details :

Key	Value
Comprehension	Comp2

Students will be taught at a young age the importance of “doing what’s right”, and will be given a logical framework for making ethical decisions. In later years, this would then be expanded along themes of cheating, violence, plagiarism, littering, tolerance, equality, empathy, etc., with a view to enabling children to embrace moral/ethical values in conducting one’s life, formulate a position/argument about an ethical issue from multiple perspectives, and use ethical practices in all work. As consequences of such basic ethical reasoning, traditional Indian values and all basic human and Constitutional values (such as *seva, ahimsa, swachchhata, satya, nishkam karma, shanti*, sacrifice, tolerance, diversity, pluralism, righteous conduct, gender sensitivity, respect for elders, respect for all people and their inherent capabilities regardless of background, respect for environment, helpfulness, courtesy, patience, forgiveness, empathy, compassion, patriotism, democratic outlook, integrity, responsibility, justice, liberty, equality, and fraternity) will be developed in all students. Children will have the opportunity to read and learn from the original stories of the Panchatantra, Jataka, Hitopadesh, and other fun fables and inspiring tales from the Indian tradition and learn about their influences on global literature. Excerpts from the Indian Constitution will also be considered essential reading for all students. Basic training in health, including preventive health, mental health, good nutrition, personal and public hygiene, disaster response and first-aid will also be included in the curriculum, as well as scientific explanations of the detrimental and damaging effects of alcohol, tobacco, and other drugs.

All curriculum and pedagogy, from the foundational stage onwards, will be redesigned to be strongly rooted in the Indian and local context and ethos in terms of culture, traditions, heritage, customs, language, philosophy, geography, ancient and contemporary knowledge, societal and scientific needs, indigenous and traditional ways of learning etc. - in order to ensure that education is maximally relatable, relevant, interesting, and effective for our students. Stories, arts, games, sports, examples, problems, etc. will be chosen as much as possible to be rooted in the Indian and local geographic context. Ideas, abstractions, and creativity will indeed best flourish when learning is thus rooted.

Select an appropriate title for the passage from the following options :

- (1) The Future of Pedagogy
- (2) A Vision for Education
- (3) Indian Knowledge Systems
- (4) The Future of Education : Rooted in Indian Values

Options :

212807119363-1

212807119366-2

212807119367-3

212807119368-4

Question Number : 8 Question Id : 21280719593 Question Type : MCQ Option Shuffling : No Is Question Mandatory : No Calculator : None

Response Time : N/A Think Time : N/A Minimum Instruction Time : 0

Correct Marks : 5 Wrong Marks : 1

Question Key Details :

Key	Value
Comprehension	Comp2



Students will be taught at a young age the importance of “doing what’s right”, and will be given a logical framework for making ethical decisions. In later years, this would then be expanded along themes of cheating, violence, plagiarism, littering, tolerance, equality, empathy, etc., with a view to enabling children to embrace moral/ethical values in conducting one’s life, formulate a position/argument about an ethical issue from multiple perspectives, and use ethical practices in all work. As consequences of such basic ethical reasoning, traditional Indian values and all basic human and Constitutional values (such as *seva, ahimsa, swachchhata, satya, nishkam karma, shanti*, sacrifice, tolerance, diversity, pluralism, righteous conduct, gender sensitivity, respect for elders, respect for all people and their inherent capabilities regardless of background, respect for environment, helpfulness, courtesy, patience, forgiveness, empathy, compassion, patriotism, democratic outlook, integrity, responsibility, justice, liberty, equality, and fraternity) will be developed in all students. Children will have the opportunity to read and learn from the original stories of the Panchatantra, Jataka, Hitopadesh, and other fun fables and inspiring tales from the Indian tradition and learn about their influences on global literature. Excerpts from the Indian Constitution will also be considered essential reading for all students. Basic training in health, including preventive health, mental health, good nutrition, personal and public hygiene, disaster response and first-aid will also be included in the curriculum, as well as scientific explanations of the detrimental and damaging effects of alcohol, tobacco, and other drugs.

All curriculum and pedagogy, from the foundational stage onwards, will be redesigned to be strongly rooted in the Indian and local context and ethos in terms of culture, traditions, heritage, customs, language, philosophy, geography, ancient and contemporary knowledge, societal and scientific needs, indigenous and traditional ways of learning etc. - in order to ensure that education is maximally relatable, relevant, interesting, and effective for our students. Stories, arts, games, sports, examples, problems, etc. will be chosen as much as possible to be rooted in the Indian and local geographic context. Ideas, abstractions, and creativity will indeed best flourish when learning is thus rooted.

Which of the following values will not be a part of a pedagogy oriented towards the Indian context ?

- (1) intolerance
- (2) empathy
- (3) patriotism
- (4) courtesy

Options :

212807118369 : 1

212807118370 : 2

212807118371 : 3

212807118372 : 4

Question Number : 9 Question Id : 21280719394 Question Type : MCQ Option Shuffling : No Is Question Mandatory : No Calculator : None

Response Time : N.A Think Time : N.A Minimum Instruction Time : 0

Correct Marks : 5 Wrong Marks : 1

Question Key Details :

Key	Value
Comprehension:	Comp1

Students will be taught at a young age the importance of "doing what's right", and will be given a logical framework for making ethical decisions. In later years, this would then be expanded along themes of cheating, violence, plagiarism, littering, tolerance, equality, empathy, etc., with a view to enabling children to embrace moral/ethical values in conducting one's life, formulate a position/argument about an ethical issue from multiple perspectives, and use ethical practices in all work. As consequences of such basic ethical reasoning, traditional Indian values and all basic human and Constitutional values (such as *seva, ahimsa, swachchhata, satya, nishkam karma, shanti*, sacrifice, tolerance, diversity, pluralism, righteous conduct, gender sensitivity, respect for elders, respect for all people and their inherent capabilities regardless of background, respect for environment, helpfulness, courtesy, patience, forgiveness, empathy, compassion, patriotism, democratic outlook, integrity, responsibility, justice, liberty, equality, and fraternity) will be developed in all students. Children will have the opportunity to read and learn from the original stories of the Panchatantra, Jataka, Hitopadesh, and other fun fables and inspiring tales from the Indian tradition and learn about their influences on global literature. Excerpts from the Indian Constitution will also be considered essential reading for all students. Basic training in health, including preventive health, mental health, good nutrition, personal and public hygiene, disaster response and first-aid will also be included in the curriculum, as well as scientific explanations of the detrimental and damaging effects of alcohol, tobacco, and other drugs.

All curriculum and pedagogy, from the foundational stage onwards, will be redesigned to be strongly rooted in the Indian and local context and ethos in terms of culture, traditions, heritage, customs, language, philosophy, geography, ancient and contemporary knowledge, societal and scientific needs, indigenous and traditional ways of learning etc. - in order to ensure that education is maximally relatable, relevant, interesting, and effective for our students. Stories, arts, games, sports, examples, problems, etc. will be chosen as much as possible to be rooted in the Indian and local geographic context. Ideas, abstractions, and creativity will indeed best flourish when learning is thus rooted.

Choose the most appropriate meaning of the given word  
"ETHOS"

- (1) an intrinsic quality of a concept
- (2) an indistinguishable quality
- (3) the characteristic spirit of a culture, era, or community
- (4) not even or regular in patterns

Options :

112807118373 1

112807118374 2

112807118375 3

112807118376 4

Question Number : 10 Question Id : 21280719555 Question Type : MCQ Option Shuffling : No Is Question Mandatory : No Calculator : None  
Response Time : N.A Think Time : N.A Minimum Instruction Time : 0

Correct Marks : 5 Wrong Marks : 1

Question Key Details :

Key	Value
Comprehension	Comp2

Students will be taught at a young age the importance of "doing what's right", and will be given a logical framework for making ethical decisions. In later years, this would then be expanded along themes of cheating, violence, plagiarism, littering, tolerance, equality, empathy, etc., with a view to enabling children to embrace moral/ethical values in conducting one's life, formulate a position/argument about an ethical issue from multiple perspectives, and use ethical practices in all work. As consequences of such basic ethical reasoning, traditional Indian values and all basic human and Constitutional values (such as *seva*, *ahimsa*, *swachchhata*, *satya*, *nishkam karma*, *shanti*, sacrifice, tolerance, diversity, pluralism, righteous conduct, gender sensitivity, respect for elders, respect for all people and their inherent capabilities regardless of background, respect for environment, helpfulness, courtesy, patience, forgiveness, empathy, compassion, patriotism, democratic outlook, integrity, responsibility, justice, liberty, equality, and fraternity) will be developed in all students. Children will have the opportunity to read and learn from the original stories of the Panchatantra, Jataka, Hitopadesh, and other fun fables and inspiring tales from the Indian tradition and learn about their influences on global literature. Excerpts from the Indian Constitution will also be considered essential reading for all students. Basic training in health, including preventive health, mental health, good nutrition, personal and public hygiene, disaster response and first-aid will also be included in the curriculum, as well as scientific explanations of the detrimental and damaging effects of alcohol, tobacco, and other drugs.

All curriculum and pedagogy, from the foundational stage onwards, will be redesigned to be strongly rooted in the Indian and local context and ethos in terms of culture, traditions, heritage, customs, language, philosophy, geography, ancient and contemporary knowledge, societal and scientific needs, indigenous and traditional ways of learning etc. - in order to ensure that education is maximally relatable, relevant, interesting, and effective for our students. Stories, arts, games, sports, examples, problems, etc. will be chosen as much as possible to be rooted in the Indian and local geographic context. Ideas, abstractions, and creativity will indeed best flourish when learning is thus rooted.

Which of the following are not constitutional values ?

- (A) swachchhata
- (B) satya
- (C) ashanti
- (D) seva
- (E) himsa

Choose the correct answer from the options given below :

- (1) (C) and (E) only
- (2) (A) and (B) only
- (3) (B) and (E) only
- (4) (C) and (D) only

Options :

212807118377-1

212807118378-2

212807118379-3

212807118380-4

Sub-Section Number :

3

Sub-Section Id :

2128071143

Question Shuffling Allowed :

No

Is Section Default? :

no

Question Number : 11 Question Id : 21280729596 Question Type : MCQ Option Shuffling : No Is Question Mandatory : No Calculator : None

Response Time : N/A Think Time : N/A Minimum Instruction Time : 0

Correct Marks : 5 Wrong Marks : 1

## Question Key Details :

Key	Value
Comprehension	Comp3

Addition or presence of undesirable substances in water is called **water pollution**.

Water pollution is one of the most serious environmental problems. Water pollution is caused by a variety of human activities such as industrial, agricultural and domestic. Agricultural run off laden with excess fertilizers and pesticides, industrial effluents with toxic substances and sewage water with human and animal wastes pollute our water thoroughly. Natural sources of pollution of water are soil erosion, leaching of minerals from rocks and decaying of organic matter. Rivers, lakes, seas, oceans, estuaries and ground water sources may be polluted by point or non-point sources. When pollutants are discharged from a specific location such as a drain pipe carrying industrial effluents discharged directly into a water body it represents **point source pollution**. In contrast **non-point sources** include discharge of pollutants from diffused sources or from a larger area such as a run off from agricultural fields, grazing lands, construction sites, abandoned mines and pits, roads and streets.

What represents point source pollution ?

- (1) Drain pipe carrying industrial effluents discharged directly into a water body
- (2) River and seas getting polluted by washing activities
- (3) Discharge of pollutants from diffused sources
- (4) Decaying of organic matter

Options :

212907118381-1

212907118382-2

212907118383-3

212907118384-4

Question Number : 12 Question Id : 21290729597 Question Type : MCQ Option Shuffling : No Is Question Mandatory : No Calculator : None  
Response Time : N.A Think Time : N.A Minimum Instruction Time : 0

Correct Marks : 5 Wrong Marks : 1

Question Key Details :

Key	Value
Comprehension	Comp3

Addition or presence of undesirable substances in water is called **water pollution**.

Water pollution is one of the most serious environmental problems. Water pollution is caused by a variety of human activities such as industrial, agricultural and domestic. Agricultural run off laden with excess fertilizers and pesticides, industrial effluents with toxic substances and sewage water with human and animal wastes pollute our water thoroughly. Natural sources of pollution of water are soil erosion, leaching of minerals from rocks and decaying of organic matter. Rivers, lakes, seas, oceans, estuaries and ground water sources may be polluted by point or non-point sources. When pollutants are discharged from a specific location such as a drain pipe carrying industrial effluents discharged directly into a water body it represents **point source pollution**. In contrast **non-point sources** include discharge of pollutants from diffused sources or from a larger area such as a run off from agricultural fields, grazing lands, construction sites, abandoned mines and pits, roads and streets.

Out of the following which is **not** a cause of water pollution ?

- (1) washing clothes in the river
- (2) putting toxic industrial effluents in rivers
- (3) soil erosion
- (4) seasonal rainfall

Options :

212507118365 1  
212507118366 2  
212507118367 3  
212507118368 4

Question Number : 13 Question Id : 21250729588 Question Type : MCQ Option Shuffling : No Is Question Mandatory : No Calculator : None  
Response Time : N.A Think Time : N.A Minimum Instruction Time : 0

Correct Marks : 5 Wrong Marks : 1

Question Key Details :

Key	Value
Comprehension	Comp3

Addition or presence of undesirable substances in water is called **water pollution**.

Water pollution is one of the most serious environmental problems. Water pollution is caused by a variety of human activities such as industrial, agricultural and domestic. Agricultural run off laden with excess fertilizers and pesticides, industrial effluents with toxic substances and sewage water with human and animal wastes pollute our water thoroughly. Natural sources of pollution of water are soil erosion, leaching of minerals from rocks and decaying of organic matter. Rivers, lakes, seas, oceans, estuaries and ground water sources may be polluted by point or non-point sources. When pollutants are discharged from a specific location such as a drain pipe carrying industrial effluents discharged directly into a water body it represents **point source pollution**. In contrast **non-point sources** include discharge of pollutants from diffused sources or from a larger area such as a run off from agricultural fields, grazing lands, construction sites, abandoned mines and pits, roads and streets.

Addition or presence of undesirable substances in water is called :

- (1) Noise pollution
- (2) Water pollution
- (3) Soil pollution
- (4) Air pollution

Options :

212507118369 1  
212507118390 2  
212507118391 3  
212507118392 4

Question Number : 14 Question Id : 21250729589 Question Type : MCQ Option Shuffling : No Is Question Mandatory : No Calculator : None  
Response Time : N.A Think Time : N.A Minimum Instruction Time : 0

Correct Marks : 5 Wrong Marks : 1

Question Key Details :

Key	Value
Comprehension	Comp3

Addition or presence of undesirable substances in water is called **water pollution**.

Water pollution is one of the most serious environmental problems. Water pollution is caused by a variety of human activities such as industrial, agricultural and domestic. Agricultural run off laden with excess fertilizers and pesticides, industrial effluents with toxic substances and sewage water with human and animal wastes pollute our water thoroughly. Natural sources of pollution of water are soil erosion, leaching of minerals from rocks and decaying of organic matter. Rivers, lakes, seas, oceans, estuaries and ground water sources may be polluted by point or non-point sources. When pollutants are discharged from a specific location such as a drain pipe carrying industrial effluents discharged directly into a water body it represents **point source pollution**. In contrast **non-point sources** include discharge of pollutants from diffused sources or from a larger area such as a run off from agricultural fields, grazing lands, construction sites, abandoned mines and pits, roads and streets.

Which is not the natural sources of water pollution ?

- (1) Soil Erosion
- (2) Leaching of minerals from rocks
- (3) Decaying of organic matter
- (4) Smoke from cars

Options :

212807118393 : 1

212807118394 : 2

212807118395 : 3

212807118396 : 4

Question Number : 15 Question Id : 21280729600 Question Type : MCQ Option Shuffling : No Is Question Mandatory : No Calculator : None

Response Time : N.A Think Time : N.A Minimum Instruction Time : 0

Correct Marks : 5 Wrong Marks : 1

Question Key Details :

Key	Value
Comprehension	Comp3

Addition or presence of undesirable substances in water is called **water pollution**.

Water pollution is one of the most serious environmental problems. Water pollution is caused by a variety of human activities such as industrial, agricultural and domestic. Agricultural run off laden with excess fertilizers and pesticides, industrial effluents with toxic substances and sewage water with human and animal wastes pollute our water thoroughly. Natural sources of pollution of water are soil erosion, leaching of minerals from rocks and decaying of organic matter. Rivers, lakes, seas, oceans, estuaries and ground water sources may be polluted by point or non-point sources. When pollutants are discharged from a specific location such as a drain pipe carrying industrial effluents discharged directly into a water body it represents **point source pollution**. In contrast **non-point sources** include discharge of pollutants from diffused sources or from a larger area such as a run off from agricultural fields, grazing lands, construction sites, abandoned mines and pits, roads and streets.

What can get polluted by point or non-point sources ?

- (1) Rain water
- (2) River, lakes, seas, oceans and ground water resources
- (3) Agricultural land
- (4) Domestic water

Options :

212807118397 : 1

212807118398 : 2

212807118399 : 3

212507119400:4

Sub-Section Number :

4

Sub-Section Id :

2125071144

Question Shuffling Allowed :

Yes

Is Section Default? :

nil

Question Number : 16 Question Id : 21250719651 Question Type : MCQ Option Shuffling : No Is Question Mandatory : No Calculator : None  
Response Time : N.A Think Time : N.A Minimum Instruction Time : 0

Correct Marks : 5 Wrong Marks : 1

Question Key Details :

Key	Value
Comprehension	MCQ

Select the correct passive form of the given sentence -

Who asked you to drive my car ?

- (1) By who you are asked to drive my car ?
- (2) By whom you were asked to drive my car ?
- (3) By whom you were asked to drive my car.
- (4) By whom were you asked to drive my car ?

Options :

212507119401:1

212507119402:2

212507119403:3

212507119404:4

Question Number : 17 Question Id : 21250719602 Question Type : MCQ Option Shuffling : No Is Question Mandatory : No Calculator : None  
Response Time : N.A Think Time : N.A Minimum Instruction Time : 0

Correct Marks : 5 Wrong Marks : 1

Question Key Details :

Key	Value
Comprehension	MCQ

Choose the correct option which best expresses the same sentence in passive/ Active Voice ?

The packet has not been opened by any one.

- (1) Anyone has not opened the packet.
- (2) No one has opened the packet.
- (3) No one has not opened the packet.
- (4) No one has been opening the packet.

Options :

212507119405:1

212507119406:2

212507119407:3

212507119408:4

Question Number : 18 Question Id : 21250719603 Question Type : MCQ Option Shuffling : No Is Question Mandatory : No Calculator : None  
Response Time : N.A Think Time : N.A Minimum Instruction Time : 0

Correct Marks : 5 Wrong Marks : 1

Question Key Details :

Key	Value
Comprehension	MCQ

Rearrange the sentences into a paragraph

### Using Earphones

- (A) Youth can be seen playing with mobile phones or listening to music using earphones all days through.
- (B) The users become indifferent to their family members.
- (C) Youth should be guided well to overcome this problem.
- (D) It diverts their concentration.
- (E) High tech expensive phones, head phones hands free, loud music are indicative of a youth icon.

Choose the correct answer from the options given below :

- (1) A → B → C → D → E
- (2) E → A → D → B → C
- (3) E → D → C → B → A
- (4) A → B → E → D → C

Options :

- 212807119409 1
- 212807119410 2
- 212807119411 3
- 212807119412 4

Question Number : 19 Question Id : 21280729654 Question Type : MCQ Option Shuffling : No Is Question Mandatory : No Calculator : None Response Time : N.A Think Time : N.A Minimum Instruction Time : 0

Correct Marks : 5 Wrong Marks : 1

Question Key Details :

Key	Value
Comprehension	MCQ

Rearrange the sentences into a paragraph.

### Story writing

- (A) You should not dwell too long on minor details
- (B) You must arrange the plot in their proper sequence
- (C) To write a good story, you must have the whole plot clear in you mind
- (D) You must not omit important items
- (E) You must produce a connected narrative and an interesting story

Choose the correct answer from the options given below :

- (1) A → B → C → D → E
- (2) B → A → D → C → E
- (3) C → B → D → A → E
- (4) E → C → D → B → A

Options :

- 212807119413 1
- 212807119414 2
- 212807119415 3
- 212807119416 4

Question Number : 20 Question Id : 21280729655 Question Type : MCQ Option Shuffling : No Is Question Mandatory : No Calculator : None Response Time : N.A Think Time : N.A Minimum Instruction Time : 0

Correct Marks : 5 Wrong Marks : 1

Question Key Details :

Key	Value
Comprehension	MCQ



Choose the correct option for the given sentence to transform it into the Indirect form :

She tells me, "I have no interest in serious fiction".

- (1) She tells me that I had no interest in serious fiction
- (2) She tells me that she has not interest in serious fiction
- (3) She told me that she had no interest in serious fiction
- (4) She tells me that I have no interest in serious fiction

Options :

212807118417 1

212807118418 2

212807118419 3

212807118420 4

Question Number : 21 Question Id : 21280729606 Question Type : MCQ Option Shuffling : No Is Question Mandatory : No Calculator : None  
Response Time : N.A Think Time : N.A Minimum Instruction Time : 0

Correct Marks : 5 Wrong Marks : 1

Question Key Details :

Key	Value
Comprehension	MCQ

Choose the correct option which best expresses the same sentence in Indirect/Direct speech  
She said that she really liked the furniture.

- (1) "She really liked this furniture," she said.
- (2) "She liked really this furniture," she said.
- (3) "I really like this furniture," she said.
- (4) "I have really liked this furniture," she said.

Options :

212807118421 1

212807118422 2

212807118423 3

212807118424 4

Question Number : 22 Question Id : 21280729607 Question Type : MCQ Option Shuffling : No Is Question Mandatory : No Calculator : None  
Response Time : N.A Think Time : N.A Minimum Instruction Time : 0

Correct Marks : 5 Wrong Marks : 1

Question Key Details :

Key	Value
Comprehension	MCQ

Choose the meaning of the underlined foreign word, from the options below :

We sampled the local CUISINE.

- (1) method of eating at a particular place
- (2) an inn at a particular place
- (3) method of cooking at a particular place
- (4) A motel at a particular place

Options :

212807118425 1

212807118426 2

212807118427 3

212807118428 4

Question Number : 23 Question Id : 21280729608 Question Type : MCQ Option Shuffling : No Is Question Mandatory : No Calculator : None  
Response Time : N.A Think Time : N.A Minimum Instruction Time : 0

Correct Marks : 5 Wrong Marks : 1

Question Key Details :

Key	Value
-----	-------

Choose the correct option which best expresses the meaning of the given foreign words/expressions  
ALMA MATER :

- (1) mother institution a person attended
- (2) parent institution one attended
- (3) brother institution one attended
- (4) central government institution one attended

Options :

- 212807119429 1  
212807119430 2  
212807119431 3  
212807119432 4

Question Number : 14 Question Id : 21280729609 Question Type : MCQ Option Shuffling : No Is Question Mandatory : No Calculator : None  
Response Time : N.A Think Time : N.A Minimum Instruction Time : 0

Correct Marks : 5 Wrong Marks : 1

Question Key Details :

Key	Value
Comprehension	MCQ

Which of the following word(s) mean the same as '*exclusion*' ?

- (A) Liberation
- (B) Hysterical
- (C) Segregation
- (D) Impatience
- (E) Agitation

Choose the correct answer from the options given below :

- (1) (B) only
- (2) (C) only
- (3) (D) and (E) only
- (4) (A) and (C) only

Options :

- 212807119433 1  
212807119434 2  
212807119435 3  
212807119436 4

Question Number : 25 Question Id : 21280729610 Question Type : MCQ Option Shuffling : No Is Question Mandatory : No Calculator : None  
Response Time : N.A Think Time : N.A Minimum Instruction Time : 0

Correct Marks : 5 Wrong Marks : 1

Question Key Details :

Key	Value
Comprehension	MCQ

Which of the following words means the same as '*perpetuity*' ?

- (1) Transience
- (2) Mortality
- (3) Discontinuity
- (4) Everlasting

Options :

- 212807119437 1  
212807119438 2  
212807119439 3

212507113440: 4

Question Number : 26 Question Id : 21250719611 Question Type : MCQ Option Shuffling : No Is Question Mandatory : No Calculator : None  
Response Time : N.A Think Time : N.A Minimum Instruction Time : 0

Correct Marks : 5 Wrong Marks : 1

Question Key Details :

Key	Value
Comprehension	MCQ

Fill in the blank with the suitable determiner from the following words.

I was leaving for the United States for further studies. I went to Ram for some advice but he \_\_\_\_\_ gave any.

- (1) Few
- (2) More
- (3) Hardly
- (4) Little

Options :

212507113441: 1

212507113442: 2

212507113443: 3

212507113444: 4

Question Number : 27 Question Id : 21250719612 Question Type : MCQ Option Shuffling : No Is Question Mandatory : No Calculator : None  
Response Time : N.A Think Time : N.A Minimum Instruction Time : 0

Correct Marks : 5 Wrong Marks : 1

Question Key Details :

Key	Value
Comprehension	MCQ

Fill in the blanks with appropriate Articles \_\_\_\_\_ sun rises in \_\_\_\_\_ East.

- (1) The, the
- (2) A, a
- (3) The, a
- (4) An, a

Options :

212507113445: 1

212507113446: 2

212507113447: 3

212507113448: 4

Question Number : 28 Question Id : 21250719613 Question Type : MCQ Option Shuffling : No Is Question Mandatory : No Calculator : None  
Response Time : N.A Think Time : N.A Minimum Instruction Time : 0

Correct Marks : 5 Wrong Marks : 1

Question Key Details :

Key	Value
Comprehension	MCQ

Change the following Assertive sentence into Exclamatory sentence.

It is sad that we lost the game today.

- (1) It is pity we lost!
- (2) It is sad today we lost!
- (3) Lost! we today.
- (4) Alas! we have lost the game today.

Options :

212507113449: 1

212507113450: 2

212507113451: 3

Question Number : 29 Question Id : 21280729614 Question Type : MCQ Option Shuffling : No Is Question Mandatory : No Calculator : None  
Response Time : N.A Think Time : N.A Minimum Instruction Time : 0

Correct Marks : 5 Wrong Marks : 1

Question Key Details :

Key	Value
Comprehension	MCQ

Change the following Assertive sentence into an Exclamatory sentence.

She is a very intelligent child.

- (1) What an intelligent child she!
- (2) An intelligent child what she is!
- (3) What an intelligent child!
- (4) She must be an intelligent girl!

Options :

212807118453-1

212807118454-2

212807118455-3

212807118456-4

Question Number : 30 Question Id : 21280729615 Question Type : MCQ Option Shuffling : No Is Question Mandatory : No Calculator : None  
Response Time : N.A Think Time : N.A Minimum Instruction Time : 0

Correct Marks : 5 Wrong Marks : 1

Question Key Details :

Key	Value
Comprehension	MCQ

Fill in the blank with the correct Preposition :

India is a noble, flourishing land, blessed \_\_\_\_\_ natural resources.

- (1) of
- (2) with
- (3) for
- (4) to

Options :

212807118457-1

212807118458-2

212807118459-3

212807118460-4

Question Number : 31 Question Id : 21280729616 Question Type : MCQ Option Shuffling : No Is Question Mandatory : No Calculator : None  
Response Time : N.A Think Time : N.A Minimum Instruction Time : 0

Correct Marks : 5 Wrong Marks : 1

Question Key Details :

Key	Value
Comprehension	MCQ

Fill in the blank with the correct Preposition :

The noise from downstairs prevented me \_\_\_\_\_ sleeping soundly.

- (1) of
- (2) for
- (3) from
- (4) with

Options :

212807118461-1

212807118462-2

212507113463 3  
212507113464 4

Question Number : 32 Question Id : 21250729617 Question Type : MCQ Option Shuffling : No Is Question Mandatory : No Calculator : None  
Response Time : N.A Think Time : N.A Minimum Instruction Time : 0

Correct Marks : 5 Wrong Marks : 1

Question Key Details :

Key	Value
Comprehension	MCQ

Fill in the blank with suitable model.

This is the house where I \_\_\_\_\_ live in my childhood.

- (1) Used to
- (2) Ought to
- (3) Dare to
- (4) Need to

Options :

212507113465 1  
212507113466 2  
212507113467 3  
212507113468 4

Question Number : 33 Question Id : 21250729618 Question Type : MCQ Option Shuffling : No Is Question Mandatory : No Calculator : None  
Response Time : N.A Think Time : N.A Minimum Instruction Time : 0

Correct Marks : 5 Wrong Marks : 1

Question Key Details :

Key	Value
Comprehension	MCQ

Fill in the blank with suitable models.

We \_\_\_\_\_ help the poor and the needy.

- (1) will
- (2) shall
- (3) ought to
- (4) had to

Options :

212507113469 1  
212507113470 2  
212507113471 3  
212507113472 4

Question Number : 34 Question Id : 21250729619 Question Type : MCQ Option Shuffling : No Is Question Mandatory : No Calculator : None  
Response Time : N.A Think Time : N.A Minimum Instruction Time : 0

Correct Marks : 5 Wrong Marks : 1

Question Key Details :

Key	Value
Comprehension	MCQ

Choose an appropriate form of Greeting in an Informal letter, is :

- (1) My Dear Mother
- (2) Respected Sir,
- (3) Dear Sir,
- (4) The Most Reverend

Options :

212507113473 1  
212507113474 2  
212507113475 3

212507118478.4

Question Number : 35 Question Id : 21250729620 Question Type : MCQ Option Shuffling : No Is Question Mandatory : No Calculator : None  
Response Time : N.A Think Time : N.A Minimum Instruction Time : 0

Correct Marks : 5 Wrong Marks : 1

Question Key Details :

Key	Value
Comprehension	MCQ

Courteous leave taking in a formal letter, is one among the following. Choose the appropriate option.

- (1) Your Sincere Friend,
- (2) Yours faithfully,
- (3) Your Lovingly,
- (4) with lot of Love

Options :

212507118477.1

212507118478.2

212507118479.3

212507118480.4

Question Number : 36 Question Id : 21250729621 Question Type : MCQ Option Shuffling : No Is Question Mandatory : No Calculator : None  
Response Time : N.A Think Time : N.A Minimum Instruction Time : 0

Correct Marks : 5 Wrong Marks : 1

Question Key Details :

Key	Value
Comprehension	MCQ

Spot the error in the following sentence and choose the appropriate option.

Children gained security from knowing exactly where their parents draw the line.

- (1) draw
- (2) gained
- (3) knowing
- (4) from

Options :

212507118481.1

212507118482.2

212507118483.3

212507118484.4

Question Number : 37 Question Id : 21250729622 Question Type : MCQ Option Shuffling : No Is Question Mandatory : No Calculator : None  
Response Time : N.A Think Time : N.A Minimum Instruction Time : 0

Correct Marks : 5 Wrong Marks : 1

Question Key Details :

Key	Value
Comprehension	MCQ

Spot the error in the following sentence and choose the appropriate option.

Democracy is the system in which people could exercise some control over their rulers.

- (1) is
- (2) could
- (3) exercise
- (4) over

Options :

212507118485.1

212507118486.2

212507118487.3

212507119499.4

Question Number : 38 Question Id : 21250719623 Question Type : MCQ Option Shuffling : No Is Question Mandatory : No Calculator : None  
Response Time : N.A Think Time : N.A Minimum Instruction Time : 0  
Correct Marks : 5 Wrong Marks : 1

Question Key Details :

Key	Value
Comprehension	MCQ

Select the appropriate option from below to find out the correct meaning of the phrasal verb given in the sentence.

The Police rounded up the hooligans from the market last night.

- (1) beaten
- (2) thrashed
- (3) encircled
- (4) arrested

Options :

212507119499.1

212507119499.2

212507119499.3

212507119499.4

Question Number : 39 Question Id : 21250719624 Question Type : MCQ Option Shuffling : No Is Question Mandatory : No Calculator : None  
Response Time : N.A Think Time : N.A Minimum Instruction Time : 0  
Correct Marks : 5 Wrong Marks : 1

Question Key Details :

Key	Value
Comprehension	MCQ

From the given options, choose the one which rearranges the parts into a meaningful sentence :

- (A) and tells the story of a group of farm yard animals
- (B) taking over their farm
- (C) Animal Farm was published in 1945
- (D) and driving out all the humans
- (E) who stage a revolution

Choose the correct answer from the options given below :

- (1) (B) (A) (E) (C) (D)
- (2) (C) (A) (E) (B) (D)
- (3) (C) (E) (A) (D) (B)
- (4) (E) (A) (C) (D) (B)

Options :

212507119499.1

212507119499.2

212507119499.3

212507119499.4

Question Number : 40 Question Id : 21250719625 Question Type : MCQ Option Shuffling : No Is Question Mandatory : No Calculator : None  
Response Time : N.A Think Time : N.A Minimum Instruction Time : 0  
Correct Marks : 5 Wrong Marks : 1

Question Key Details :

Key	Value
Comprehension	MCQ

Match List - I with List - II. Given below are some phrasal verbs with their meaning. Match the list :

- | List - I      | List - II   |
|---------------|-------------|
| (A) Turn down | (I) reveal  |
| (B) Turn off  | (II) arrive |
| (C) Turn out  | (III) stop  |
| (D) Turn up   | (IV) reject |

Choose the **correct** answer from the options given below :

- (1) (A)-(IV), (B)-(III), (C)-(II), (D)-(I)
- (2) (A)-(III), (B)-(I), (C)-(II), (D)-(IV)
- (3) (A)-(IV), (B)-(II), (C)-(I), (D)-(III)
- (4) (A)-(IV), (B)-(III), (C)-(I), (D)-(II)

Options :

- 212807118497 : 1  
212807118498 : 2  
212807118499 : 3  
212807118500 : 4

Question Number : 41 Question Id : 21280729626 Question Type : MCQ Option Shuffling : No Is Question Mandatory : No Calculator : None Response Time : N.A Think Time : N.A Minimum Instruction Time : 0

Correct Marks : 5 Wrong Marks : 1

Question Key Details :

Key	Value
Comprehension	MCQ

Fill in the blanks with the appropriate word from the following.

The dead body was taken to the cemetery for burial.

The building looks elegant mainly because of its remarkable \_\_\_\_\_.

- (1) Cymmetry
- (2) Symmetry
- (3) Simmartry
- (4) chimmartry

Options :

- 212807118501 : 1  
212807118502 : 2  
212807118503 : 3  
212807118504 : 4

Question Number : 42 Question Id : 21280729627 Question Type : MCQ Option Shuffling : No Is Question Mandatory : No Calculator : None Response Time : N.A Think Time : N.A Minimum Instruction Time : 0

Correct Marks : 5 Wrong Marks : 1

Question Key Details :

Key	Value
Comprehension	MCQ



Select the appropriate Antonym of the word :

INSOLVENT

- (A) destitute
- (B) affluent
- (C) defaulter
- (D) wealthy
- (E) eradicate

Choose the correct answer from the options given below :

- (1) (A) and (C) only
- (2) (A) and (D) only
- (3) (B) and (D) only
- (4) (C) and (E) only

Options :

- 112807118503 1
- 112807118506 2
- 112807118507 3
- 112807118508 4

Question Number : 43 Question Id : 11280719628 Question Type : MCQ Option Shuffling : No Is Question Mandatory : No Calculator : None Response Time : N.A Think Time : N.A Minimum Instruction Time : 0

Correct Marks : 5 Wrong Marks : 1

Question Key Details :

Key	Value
Comprehension	MCQ

From the given options, choose the word that is opposite in meaning to "TEMERITY" :

- (1) audacity
- (2) discretion
- (3) imprudence
- (4) indiscretion

Options :

- 112807118509 1
- 112807118510 2
- 112807118511 3
- 112807118512 4

Question Number : 44 Question Id : 11280719628 Question Type : MCQ Option Shuffling : No Is Question Mandatory : No Calculator : None Response Time : N.A Think Time : N.A Minimum Instruction Time : 0

Correct Marks : 5 Wrong Marks : 1

Question Key Details :

Key	Value
Comprehension	MCQ

Choose the most appropriate to complete the given sentence.

He behaved in a \_\_\_\_\_ manner.

- (1) faithfully
- (2) niggard
- (3) naughty
- (4) cowardly

Options :

- 112807118513 1
- 112807118514 2
- 112807118515 3

212507118516-4

Question Number : 45 Question Id : 21250729630 Question Type : MCQ Option Shuffling : No Is Question Mandatory : No Calculator : None  
Response Time : N.A Think Time : N.A Minimum Instruction Time : 0

Correct Marks : 5 Wrong Marks : 1

Question Key Details :

Key	Value
Comprehension	MCQ

Match List - I with List - II.

List - I

List - II

- |                  |                          |
|------------------|--------------------------|
| (A) every where  | (I) adverb of manner     |
| (B) completely   | (II) adverb of frequency |
| (C) consequently | (III) adverb of place    |
| (D) faithfully   | (IV) adverb of reason    |

Choose the correct answer from the options given below :

- (1) (A)-(I), (B)-(II), (C)-(III), (D)-(IV)
- (2) (A)-(III), (B)-(II), (C)-(IV), (D)-(I)
- (3) (A)-(II), (B)-(III), (C)-(I), (D)-(IV)
- (4) (A)-(III), (B)-(IV), (C)-(II), (D)-(I)

Options :

212507118517-1

212507118518-2

212507118519-3

212507118520-4

Question Number : 46 Question Id : 21250729631 Question Type : MCQ Option Shuffling : No Is Question Mandatory : No Calculator : None  
Response Time : N.A Think Time : N.A Minimum Instruction Time : 0

Correct Marks : 5 Wrong Marks : 1

Question Key Details :

Key	Value
Comprehension	MCQ

Fill in the blanks with an appropriate question tag.

Few people got the question right. \_\_\_\_\_?

- (1) didn't they
- (2) couldn't they
- (3) did they
- (4) can't they

Options :

212507118521-1

212507118522-2

212507118523-3

212507118524-4

Question Number : 47 Question Id : 21250729632 Question Type : MCQ Option Shuffling : No Is Question Mandatory : No Calculator : None  
Response Time : N.A Think Time : N.A Minimum Instruction Time : 0

Correct Marks : 5 Wrong Marks : 1

Question Key Details :

Key	Value
Comprehension	MCQ

Choose the correct sentence :

- (A) He said that honesty has been the best policy.
- (B) He said that honesty had been the best policy.
- (C) He said that honesty was the best policy.
- (D) He said that honesty is the best policy.
- (E) He said that honesty will be the best policy.

Choose the correct answer from the options given below :

- (1) (A) and (B) only
- (2) (C) and (B) only
- (3) (A), (B) and (C) only
- (4) (D) only

Options :

- 212807118528 1
- 212807118528 2
- 212807118528 3
- 212807118528 4

Question Number : 48 Question Id : 21280719633 Question Type : MCQ Option Shuffling : No Is Question Mandatory : No Calculator : None  
Response Time : N.A Think Time : N.A Minimum Instruction Time : 0  
Correct Marks : 5 Wrong Marks : 1

Question Key Details :

Key	Value
Comprehension	MCQ

Fill in the blank with the correct idiom. The fire brigade \_\_\_\_\_ the fire.

- (A) put on
- (B) put up
- (C) put out
- (D) put in
- (E) put of

Choose the correct answer from the options given below :

- (1) (B) only
- (2) (C) only
- (3) (D) only
- (4) (E) only

Options :

- 212807118530 1
- 212807118530 2
- 212807118530 3
- 212807118530 4

Question Number : 49 Question Id : 21280719634 Question Type : MCQ Option Shuffling : No Is Question Mandatory : No Calculator : None  
Response Time : N.A Think Time : N.A Minimum Instruction Time : 0  
Correct Marks : 5 Wrong Marks : 1

Question Key Details :

Key	Value
Comprehension	MCQ

Select the correct meaning of the idiom given in the sentence from the options given below :

Don't beat about the bush, tell me what you want me to do for you.

- (1) not saying directly what one wants to say
- (2) to say directly
- (3) beating the bush
- (4) beating people

Options :

212807118533 1

212807118534 2

212807118535 3

212807118536 4

Question Number : 50 Question Id : 21280719635 Question Type : MCQ Option Shuffling : No Is Question Mandatory : No Calculator : None  
Response Time : N.A Think Time : N.A Minimum Instruction Time : 0

Correct Marks : 5 Wrong Marks : 1

Question Key Details :

Key	Value
Comprehension	MCQ

Identify the adjective clause in the following sentence :

The reason why I did this is obvious.

- (1) why I did this
- (2) reason why I
- (3) this is obvious
- (4) the reason why I did

Options :

212807118537 1

212807118538 2

212807118539 3

212807118540 4

## Hindi

Group Number :	5
Group Id :	212807641
Group Maximum Duration :	45
Group Minimum Duration :	45
Show Attended Group? :	No
Edit Attended Group? :	No
Break time :	0
Group Marks :	200
Is this Group for Examiner? :	No
Examiner permission :	Can View
Show Progress Bar? :	No

## Hindi

Section Id :	212807149
Section Number :	1
Section type :	Online
Mandatory or Optional :	Mandatory
Number of Questions :	50
Number of Questions to be attempted :	40
Section Marks :	200
Enable Mark as Answered Mark for Review and Clear Response :	Yes
Maximum Instruction Time :	0
Sub-Section Number :	1

Sub-Section Id :

1128072145

Question Shuffling Allowed :

No

Is Section Default? :

null

Question Number : 51 Question Id : 11280729721 Question Type : MCQ Option Shuffling : No Is Question Mandatory : No Calculator : None  
Response Time : N.A Think Time : N.A Minimum Instruction Time : 0

Correct Marks : 5 Wrong Marks : 1

Question Key Details :

Key	Value
Comprehension	Compl

**निम्नलिखित गद्यांश के आधार पर दिए गए प्रश्नों के उत्तर दें।**

एक समय था, जब हमारे देश में वनों की कोई कमी नहीं थी, आबादी कम थी और बड़े-बड़े शहरों का विकास नहीं हुआ था। गाँव और बस्तियाँ आधिकार जंगलों के किनारे बसे हुए थे। ग्रामीण जीवन में वनों का विशिष्ट स्थान था। वन भारतीय जीवन के स्रोत थे। यह सुखद संस्मरण अब भूतकाल की बात हो गई है। वर्तमान जीवन बड़े-बड़े महानगरों में सीमेंट, लोहे और कंक्रीट के जंगल में कैद है। अब स्वच्छ वायु, प्राकृतिक दृश्य, वनों को छटा सब कुछ स्वप्न बनकर रह गए हैं। वर्तमान विशेषज्ञों का कहना है कि देश के कम-से-कम 40 प्रतिशत भाग में वन होने आवश्यक हैं, परंतु दुर्भाग्य यह है कि मात्र 23 प्रतिशत भाग में वन शेष रह गए हैं। वनों की घटती संख्या के कारण हैं - बढ़ती हुई जनसंख्या, फैलते हुए मैदान, बड़े-बड़े उद्योगों की स्थापना और आधुनिक सभ्यता वनों के बिना सभी प्राणियों का जीवित रहना बहुत कठिन है।

इनमें से कौन-सा कथन सही नहीं है ?

- (1) ग्रामीण जीवन में वनों का विशिष्ट स्थान था।
- (2) वन भारतीय जीवन के स्रोत थे।
- (3) गाँव और बस्तियाँ जंगलों के किनारे बसे हुए थे।
- (4) वनों के प्रति लोग पहले बहुत उदासीन थे।

Options :

112807113881 1

112807113882 1

112807113883 3

112807113884 4

Question Number : 52 Question Id : 11280729721 Question Type : MCQ Option Shuffling : No Is Question Mandatory : No Calculator : None  
Response Time : N.A Think Time : N.A Minimum Instruction Time : 0

Correct Marks : 5 Wrong Marks : 1

Question Key Details :

Key	Value
Comprehension	Compl

### निम्नलिखित गद्यांश के आधार पर दिए गए प्रश्नों के उत्तर दें।

एक समय था, जब हमारे देश में वनों की कोई कमी नहीं थी, आबादी कम थी और बड़े-बड़े शहरों का विकास नहीं हुआ था। गाँव और बस्तियाँ अधिकतर जंगलों के किनारे बसे हुए थे। ग्रामीण जीवन में वनों का विशिष्ट स्थान था। वन भारतीय जीवन के स्रोत थे। यह सुखद संस्मरण अब भूतकाल की बात हो गई है। वर्तमान जीवन बड़े-बड़े महानगरों में सीमेंट, लोहे और कंक्रीट के जंगल में कैद है। अब स्वच्छ वायु, प्राकृतिक दृश्य, वनों की छटा सब कुछ स्वप्न बनकर रह गए हैं। वर्तमान विशेषज्ञों का कहना है कि देश के कम-से-कम 40 प्रतिशत भाग में वन होने आवश्यक हैं, परंतु दुर्भाग्य यह है कि मात्र 23 प्रतिशत भाग में वन शेष रह गए हैं। वनों की घटती संख्या के कारण हैं - बढ़ती हुई जनसंख्या, फैलते हुए मैदान, बड़े-बड़े उद्योगों की स्थापना और आधुनिक सभ्यता वनों के बिना सभी प्राणियों का जीवित रहना बहुत कठिन है।

वर्तमान विशेषज्ञों का मानना है :

- (1) देश के कम-से-कम 40 प्रतिशत भाग में वन होने आवश्यक हैं।
- (2) देश के कम-से-कम 23 प्रतिशत भाग में वन होने आवश्यक हैं।
- (3) देश के अधिक-से-अधिक 40 प्रतिशत भाग में वन होने आवश्यक हैं।
- (4) देश के अधिक-से-अधिक 23 प्रतिशत भाग में वन होने आवश्यक हैं।

Options :

- 212807113885 1
- 212807113886 2
- 212807113887 3
- 212807113888 4

Question Number : 53 Question Id : 21280729723 Question Type : MCQ Option Shuffling : No Is Question Mandatory : No Calculator : None Response Time : N.A Think Time : N.A Minimum Instruction Time : 0

Correct Marks : 5 Wrong Marks : 1

Question Key Details :

Key	Value
Comprehension	Compl

### निम्नलिखित गद्यांश के आधार पर दिए गए प्रश्नों के उत्तर दें।

एक समय था, जब हमारे देश में वनों की कोई कमी नहीं थी, आबादी कम थी और बड़े-बड़े शहरों का विकास नहीं हुआ था। गाँव और बस्तियाँ अधिकतर जंगलों के किनारे बसे हुए थे। ग्रामीण जीवन में वनों का विशिष्ट स्थान था। वन भारतीय जीवन के स्रोत थे। यह सुखद संस्मरण अब भूतकाल की बात हो गई है। वर्तमान जीवन बड़े-बड़े महानगरों में सीमेंट, लोहे और कंक्रीट के जंगल में कैद है। अब स्वच्छ वायु, प्राकृतिक दृश्य, वनों की छटा सब कुछ स्वप्न बनकर रह गए हैं। वर्तमान विशेषज्ञों का कहना है कि देश के कम-से-कम 40 प्रतिशत भाग में वन होने आवश्यक हैं, परंतु दुर्भाग्य यह है कि मात्र 23 प्रतिशत भाग में वन शेष रह गए हैं। वनों की घटती संख्या के कारण हैं - बढ़ती हुई जनसंख्या, फैलते हुए मैदान, बड़े-बड़े उद्योगों की स्थापना और आधुनिक सभ्यता वनों के बिना सभी प्राणियों का जीवित रहना बहुत कठिन है।

वनों की घटती संख्या के क्या कारण नहीं हैं ?

- (1) बढ़ती हुई जनसंख्या
- (2) अधिक से अधिक वृक्षारोपण
- (3) फैलते हुए मैदान
- (4) बड़े-बड़े उद्योगों की स्थापना

Options :

- 212807113889 1
- 212807113890 2
- 212807113891 3
- 212807113892 4

Question Number : 54 Question Id : 21280719724 Question Type : MCQ Option Shuffling : No Is Question Mandatory : No Calculator : None  
Response Time : N.A Think Time : N.A Minimum Instruction Time : 0

Correct Marks : 5 Wrong Marks : 1

Question Key Details :

Key	Value
Comprehension	Compl

निम्नलिखित गद्यांश के आधार पर दिए गए प्रश्नों के उत्तर दें।

एक समय था, जब हमारे देश में वनों की कोई कमी नहीं थी, आबादी कम थी और बड़े-बड़े शहरों का विकास नहीं हुआ था। गाँव और वस्तियाँ अधिकतर जंगलों के किनारे बसे हुए थे। ग्रामीण जीवन में वनों का विशिष्ट स्थान था। वन भारतीय जीवन के स्रोत थे। यह सुखद संस्मरण अब भूतकाल की बात हो गई है। वर्तमान जीवन बड़े-बड़े महानगरों में सीमेंट, लोहे और कंक्रीट के जंगल में कैद है। अब स्वच्छ वायु, प्राकृतिक दृश्य, वनों की छटा सब कुछ स्वप्न बनकर रह गए हैं। वर्तमान विशेषज्ञों का कहना है कि देश के कम-से-कम 40 प्रतिशत भाग में वन होने आवश्यक हैं, परंतु दुर्भाग्य यह है कि मात्र 23 प्रतिशत भाग में वन शेष रह गए हैं। वनों की घटती संख्या के कारण हैं - बढ़ती हुई जनसंख्या, फैलते हुए मैदान, बड़े-बड़े उद्योगों की स्थापना और आधुनिक सभ्यता वनों के बिना सभी प्राणियों का जीवित रहना बहुत कठिन है।

वर्तमान जीवन बड़े-बड़े महानगरों में किस प्रकार से कैद है ?

- (1) जेल के सलाखों में
- (2) वृक्षों के घेरों में
- (3) सीमेंट, लोहे और कंक्रीट के जंगल
- (4) पुलिस के सागे में

Options :

212807118893 3

212807118894 3

212807118895 3

212807118896 4

Question Number : 55 Question Id : 21280719725 Question Type : MCQ Option Shuffling : No Is Question Mandatory : No Calculator : None  
Response Time : N.A Think Time : N.A Minimum Instruction Time : 0

Correct Marks : 5 Wrong Marks : 1

Question Key Details :

Key	Value
Comprehension	Compl

## निम्नलिखित गद्यांश के आधार पर दिए गए प्रश्नों के उत्तर दें।

एक समय था, जब हमारे देश में वनों की कोई कमी नहीं थी, आबादी कम थी और बड़े-बड़े शहरों का विकास नहीं हुआ था। गाँव और बस्तियाँ अधिकतर जंगलों के किनारे बसे हुए थे। ग्रामीण जीवन में वनों का विशिष्ट स्थान था। वन भारतीय जीवन के स्रोत थे। यह सुखद संस्मरण अब भूतकाल की बात हो गई है। वर्तमान जीवन बड़े-बड़े महानगरों में सीमेंट, लोहे और कंक्रीट के जंगल में कैद है। अब स्वच्छ वायु, प्राकृतिक दृश्य, वनों की छटा सब कुछ स्वप्न बनकर रह गए हैं। वर्तमान विशेषज्ञों का कहना है कि देश के कम-से-कम 40 प्रतिशत भाग में वन होने आवश्यक हैं, परंतु दुर्भाग्य यह है कि मात्र 23 प्रतिशत भाग में वन शेष रह गए हैं। वनों की घटती संख्या के कारण हैं - बढ़ती हुई जनसंख्या, फैलते हुए मैदान, बड़े-बड़े उद्योगों की स्थापना और आधुनिक सभ्यता वनों के बिना सभी प्राणियों का जीवित रहना बहुत कठिन है।

वनों के बिना बहुत कठिन है -

- (1) जानवरों का जीवित रहना
- (2) सभी प्राणियों का जीवित रहना
- (3) खेल के मैदान का होना
- (4) समुचित वर्षा का होना

Options :

- 212807118897 1  
212807118898 2  
212807118899 3  
212807118900 4

Sub-Section Number : 2  
Sub-Section Id : 2128072146  
Question Shuffling Allowed : No  
Is Section Default? : null

Question Number : 66 Question Id : 21280729726 Question Type : MCQ Option Shuffling : No Is Question Mandatory : No Calculator : None  
Response Time : N.A Think Time : N.A Minimum Instruction Time : 0  
Correct Marks : 5 Wrong Marks : 1

Question Key Details :

Key	Value
Comprehension	Comp2



निम्नलिखित पद्यांश को पढ़कर नीचे दिए गए प्रश्नों के सही उत्तर चुनिए।

आज नव निर्माण के गीत गाएँ,

माँ भारती का घर आँगन सजाएँ।

हम सब मिल ऐसे देश बनाएँ,

जिसके सब बच्चे पढ़ने जाएँ।

पाएँ सब पुस्तक और स्लैट,

कोई कभी न सोए भूखे पेट।

सदा मिले उन्हें बड़ों का प्यार

कोई न छीने अधिकार।

कभी न सुटे सपनों का संसार

मेहनत से ही हों सपने साकार।

बच्चे खेलें ऐसे खेल,

सदा रहे, उनमें गहरा मेल।

वे सब मिल ऐसे देश बनाएँ,

घर-घर में जहाँ खुशहाली छापे।

समता-सम्पन्नता के गीत गाएँ

देश फिर सोने की चिड़िया कहलाए।

कविता के अंश के आधार पर :

कवि किसके नव निर्माण की बात कर रहा है ?

- (1) घर
- (2) पार्क/बाग-बगीचा
- (3) कारखाना
- (4) राष्ट्र

Options :

112807118901 1

112807118902 2

112807118903 3

112807118904 4

Question Number : 57 Question Id : 21280719727 Question Type : MCQ Option Shuffling : No Is Question Mandatory : No Calculator : None

Response Time : N.A Think Time : N.A Minimum Instruction Time : 0

Correct Marks : 5 Wrong Marks : 1

Question Key Details :

Key	Value
Comprehension	Comp2

निम्नलिखित पद्यांश को पढ़कर नीचे दिए गए प्रश्नों के सही उत्तर चुनिए।

आव नव निर्माण के गीत गाएँ

माँ भारती का घर आँगन बनाएँ।

हम सब मिल ऐसा देश बनाएँ,

जिसके सब बच्चे पढ़ने जाएँ।

पाएँ सब पुस्तक और स्लैट,

कोई कभी न सोए भूखे पेट।

सदा मिले उन्हें बड़ों का प्यार

कोई न छीने अधिकार।

कभी न सुटे सपनों का संसार

मेहनत से ही हों सपने साकार।

बच्चे खेलें ऐसे खेल,

सदा रहे, उनमें गहरा मेल।

वे सब मिल ऐसा देश बनाएँ,

घर-घर में जहाँ खुशहाली छापे।

समता-सम्पन्नता के गीत गाएँ

देश फिर सोने की चिड़िया कहलाए।

साकार व अधिकार में कौन-सा प्रत्यय है?

- (1) कार
- (2) आर
- (3) आकार
- (4) र

Options :

112807113903 1

112807113904 2

112807113905 3

112807113906 4

Question Number : 55 Question Id : 11280729728 Question Type : MCQ Option Shuffling : No Is Question Mandatory : No Calculator : None

Response Time : N.A Think Time : N.A Minimum Instruction Time : 0

Correct Marks : 5 Wrong Marks : 1

Question Key Details :

Key	Value
Comprehension	Comp1

निम्नलिखित पद्यांश को पढ़कर नीचे दिए गए प्रश्नों के सही उत्तर चुनिए।

आव नव निर्माण के गीत गाएँ

माँ भारती का घर आँगन बनाएँ।

हम सब मिल ऐसा देश बनाएँ

जिसके सब बच्चे पढ़ने जाएँ।

पाएँ सब पुस्तक और स्लैट,

कोई कभी न सोए भूखे पेट।

सदा मिले उन्हें बड़ों का प्यार

कोई न छीने अधिकार।

कभी न सुटे सपनों का संसार

मेहनत से ही हों सपने साकार।

बच्चे खेलें ऐसे खेल,

सदा रहे, उनमें गहरा मेल।

वे सब मिल ऐसा देश बनाएँ

घर-घर में जहाँ खुशहाली छाप।

समता-सम्पन्नता के गीत गाएँ

देश फिर सोने की चिड़िया कहलाए।

इनमें से कौन-सी विशेषताएँ राष्ट्र के संबन्ध में कवि द्वारा कल्पित की गई हैं ?

- (A) कोई भूखा न हो
- (B) परमाणु बम का निर्माण हो
- (C) बच्चे शिक्षित हों
- (D) अधिकारों का हनन न हो
- (E) आपस में प्रेम हो

नीचे दिए गए विकल्पों में से सही उत्तर का चयन कीजिए :

- (1) केवल (B), (C), (D)
- (2) केवल (A), (B), (C) और (D)
- (3) केवल (A), (C), (D) और (E)
- (4) केवल (D), (E), (A) और (B)

Options :

112807118909 1

212807118910 2

312807118911 3

412807118912 4

Question Number : 59 Question Id : 21280729728 Question Type : MCQ Option Shuffling : No Is Question Mandatory : No Calculator : None  
Response Time : N.A Think Time : N.A Minimum Instruction Time : 0

Correct Marks : 5 Wrong Marks : 1

Question Key Details :

Key	Value
Comprehension	Comp2

निम्नलिखित पद्यांश को पढ़कर नीचे दिए गए प्रश्नों के सही उत्तर चुनिए।

आज नव निर्माण के गीत गाएँ

माँ भारती का घर आँगन बनाएँ।

हम सब मिल ऐसे देश बनाएँ,

जिसके सब बच्चे पढ़ने जाएँ।

पाएँ सब पुस्तक और स्लैट,

कोई कभी न सोए भूखे पेट।

सदा मिले उन्हें बड़ों का प्यार

कोई न छीने अधिकार।

कभी न सुटे सपनों का संसार

मेहनत से ही हों सपने साकार।

बच्चे खेलें ऐसे खेल,

सदा रहे, उनमें गहरा मेल।

वे सब मिल ऐसे देश बनाएँ,

घर-घर में जहाँ खुशहाली छापे।

समता-सम्पन्नता के गीत गाएँ

देश फिर सोने की चिड़िया कहलाए।

बच्चे किस प्रकार के खेल खेलें?

- (1) लड़वाई वाले
- (2) आपसी तालमेल वाले
- (3) बन्दूक वाले
- (4) जिनमें धन अधिक खर्च हो

Options :

112807118913 1

112807118914 2

112807118915 3

112807118916 4

Question Number : 60 Question Id : 11280729730 Question Type : MCQ Option Shuffling : No Is Question Mandatory : No Calculator : None

Response Time : N.A Think Time : N.A Minimum Instruction Time : 0

Correct Marks : 5 Wrong Marks : 1

Question Key Details :

Key	Value
Comprehension	Comp1

निम्नलिखित पद्यांश को पढ़कर नीचे दिए गए प्रश्नों के सही उत्तर चुनिए।

आज नव निर्माण के गीत गाएँ,

माँ भारती का घर आँगन बनाएँ।

हम सब मिल ऐसा देश बनाएँ,

जिसके सब बच्चे पढ़ने जाएँ।

पाएँ सब पुस्तक और स्लैट,

कोई कभी न सोए भूखे पेट।

सदा मिले उन्हें बड़ों का प्यार

कोई न छीने अधिकार।

कभी न सुटे सपनों का संसार

मेहनत से ही हों सपने साकार।

बच्चे खेलें ऐसे खेल,

सदा रहे, उनमें गहरा मेल।

वे सब मिल ऐसा देश बनाएँ,

घर-घर में जहाँ खुशहाली छाप।

समता-सम्पन्नता के गीत गाएँ

देश फिर सोने की चिड़िया कहलाए।

पद्यांश के अनुसार सपने कैसे साकार हो सकते हैं?

- (1) मेहनत से
- (2) पढ़ने से
- (3) मेल मिलाप से
- (4) खुशहाली से

Options :

212807118917 1

212807118918 2

212807118919 3

212807118920 4

Sub-Section Number :

3

Sub-Section Id :

2128072147

Question Shuffling Allowed :

No

Is Section Default? :

null

Question Number : 61 Question Id : 21280729231 Question Type : MCQ Option Shuffling : No Is Question Mandatory : No Calculator : None  
Response Time : N.A Think Time : N.A Minimum Instruction Time : 0

Correct Marks : 5 Wrong Marks : 1

Question Key Details :

Key	Value
Comprehension	Comp3

### निम्नलिखित गद्यांश को पढ़कर नीचे दिए गए प्रश्नों के सही उत्तर दीजिए :

संसार के सभी देशों में शिक्षित व्यक्ति को सबसे पहली पहचान यह होती है कि वह अपनी मातृभाषा में दक्षता से काम कर सकता है। केवल भारत ही एक देश है जिसमें शिक्षित व्यक्ति वह समझा जाता है जो अपनी मातृभाषा में दक्ष हो या नहीं, किंतु अंग्रेजी में जिसकी दक्षता असौंदर्य हो। संसार के अन्य देशों में सुसंस्कृत व्यक्ति वह समझा जाता है जिसके घर में अपनी भाषा की पुस्तकों का संग्रह हो और जिसे बराबर यह पता रहे कि उसकी भाषा के अच्छे लेखक और कवि कौन हैं तथा समय-समय पर उनकी कौन-सी कृतियाँ प्रकाशित हो रही हैं। भारत में स्थिति दूसरी है। यहाँ प्रायः घर में साज-सज्जा के आधुनिक उपकरण तो होते हैं किंतु अपनी भाषा की कोई पुस्तक या पत्रिका दिखाई नहीं पड़ती। यह दुरवस्था भले ही भले ही किसी ऐतिहासिक प्रक्रिया का परिणाम है, किंतु वह सुदृशा नहीं, दुरवस्था ही है और जब तक यह दुरवस्था कायम है, हमें अपने-आप को, सही अर्थों में शिक्षित और सुसंस्कृत मानने का ठीक-ठीक न्यायसंगत अधिकार नहीं।

संसार के अन्य देशों में सुसंस्कृत व्यक्ति किसे मानते हैं ?

- (1) जो संस्कृत जानता हो।
- (2) जो स्वभाषा जानता हो।
- (3) जिसके घर में स्वभाषा की पुस्तकें हो।
- (4) जिसे स्वभाषा, स्वसाहित्य, और लेखकों से गहरा जुड़ाव हो।

Options :

- 212507113921 1  
212507113922 2  
212507113923 3  
212507113924 4

Question Number : 62 Question Id : 21250729731 Question Type : MCQ Option Shuffling : No Is Question Mandatory : No Calculator : None  
Response Time : N.A Think Time : N.A Minimum Instruction Time : 0

Correct Marks : 5 Wrong Marks : 1

Question Key Details :

Key	Value
Comprehension	Comp3

### निम्नलिखित गद्यांश को पढ़कर नीचे दिए गए प्रश्नों के सही उत्तर दीजिए :

संसार के सभी देशों में शिक्षित व्यक्ति को सबसे पहली पहचान यह होती है कि वह अपनी मातृभाषा में दक्षता से काम कर सकता है। केवल भारत ही एक देश है जिसमें शिक्षित व्यक्ति वह समझा जाता है जो अपनी मातृभाषा में दक्ष हो या नहीं, किंतु अंग्रेजी में जिसकी दक्षता असौंदर्य हो। संसार के अन्य देशों में सुसंस्कृत व्यक्ति वह समझा जाता है जिसके घर में अपनी भाषा की पुस्तकों का संग्रह हो और जिसे बराबर यह पता रहे कि उसकी भाषा के अच्छे लेखक और कवि कौन हैं तथा समय-समय पर उनकी कौन-सी कृतियाँ प्रकाशित हो रही हैं। भारत में स्थिति दूसरी है। यहाँ प्रायः घर में साज-सज्जा के आधुनिक उपकरण तो होते हैं किंतु अपनी भाषा की कोई पुस्तक या पत्रिका दिखाई नहीं पड़ती। यह दुरवस्था भले ही भले ही किसी ऐतिहासिक प्रक्रिया का परिणाम है, किंतु वह सुदृशा नहीं, दुरवस्था ही है और जब तक यह दुरवस्था कायम है, हमें अपने-आप को, सही अर्थों में शिक्षित और सुसंस्कृत मानने का ठीक-ठीक न्यायसंगत अधिकार नहीं।

यहाँ किस ऐतिहासिक प्रक्रिया को ओर संकेत है ?

- (1) भारत में बढ़ते भौतिकवाद की ओर
- (2) भारत में बढ़ते भ्रष्टाचार की ओर
- (3) भारत में अंग्रेजों की गुलामी की ओर
- (4) भारत के लोगों की स्वार्थपरता की ओर

Options :

- 212507113925 1

212807118928 1  
212807118929 2  
212807118930 3  
212807118931 4

Question Number : 63 Question Id : 21280729\*23 Question Type : MCQ Option Shuffling : No Is Question Mandatory : No Calculator : None  
Response Time : N.A Think Time : N.A Minimum Instruction Time : 0  
Correct Marks : 5 Wrong Marks : 1  
Question Key Details :

Key	Value
Comprehension	Comp3

निम्नलिखित गद्यांश को पढ़कर नीचे दिए गए प्रश्नों के सही उत्तर दीजिए :

संसार के सभी देशों में शिक्षित व्यक्ति को सबसे पहली पहचान यह होती है कि वह अपनी मातृभाषा में दक्षता से काम कर सकता है। केवल भारत ही एक देश है जिसमें शिक्षित व्यक्ति वह समझा जाता है जो अपनी मातृभाषा में दक्ष हो या नहीं, किंतु अंग्रेजी में जिसकी दक्षता असाधारण हो। संसार के अन्य देशों में सुसंस्कृत व्यक्ति वह समझा जाता है जिसके घर में अपनी भाषा की पुस्तकों का संग्रह हो और जिसे बराबर यह पता रहे कि उसकी भाषा के अच्छे लेखक और कवि कौन हैं तथा समय-समय पर उनकी कौन-सी कृतियाँ प्रकाशित हो रही हैं। भारत में स्थिति दूसरी है। यहाँ प्रायः घर में साज-सज्जा के आधुनिक उपकरण तो होते हैं किंतु अपनी भाषा की कोई पुस्तक या पत्रिका दिखाई नहीं पड़ती। यह दुरवस्था भले ही भले ही किसी ऐतिहासिक प्रक्रिया का परिणाम है, किंतु वह सुदृश्या नहीं, दुरवस्था ही है और जब तक यह दुरवस्था कायम है, हमें अपने-आप को, सही अर्थों में शिक्षित और सुसंस्कृत मानने का ठीक-ठीक न्यायसंगत अधिकार नहीं।

'दुरवस्था' में कौन-सा उपसर्ग है?

- (1) दु
- (2) दुर
- (3) दूर
- (4) आ

Options :  
212807118929 1  
212807118930 2  
212807118931 3  
212807118932 4

Question Number : 64 Question Id : 21280729\*24 Question Type : MCQ Option Shuffling : No Is Question Mandatory : No Calculator : None  
Response Time : N.A Think Time : N.A Minimum Instruction Time : 0  
Correct Marks : 5 Wrong Marks : 1  
Question Key Details :

Key	Value
Comprehension	Comp3

### निम्नलिखित गद्यांश को पढ़कर नीचे दिए गए प्रश्नों के सही उत्तर दीजिए :

संसार के सभी देशों में शिक्षित व्यक्ति को सबसे पहली पहचान यह होती है कि वह अपनी मातृभाषा में दक्षता से काम कर सकता है। केवल भारत ही एक देश है जिसमें शिक्षित व्यक्ति वह समझा जाता है जो अपनी मातृभाषा में दक्ष हो या नहीं, किंतु अंग्रेजी में जिसको दक्षता असंदिग्ध हो। संसार के अन्य देशों में सुसंस्कृत व्यक्ति वह समझा जाता है जिसके घर में अपनी भाषा की पुस्तकों का संग्रह हो और जिसे बराबर वह पता रहे कि उसकी भाषा के अच्छे लेखक और कवि कौन हैं तथा समय-समय पर उनकी कौन-सी कृतियाँ प्रकाशित हो रही हैं। भारत में स्थिति दूसरी है। यहाँ प्रायः घर में साज-सज्जा के आधुनिक उपकरण तो होते हैं किंतु अपनी भाषा की कोई पुस्तक या पत्रिका दिखाई नहीं पड़ती। यह दुरवस्था भले ही भले ही किसी ऐतिहासिक प्रक्रिया का परिणाम है, किंतु वह सुदृशा नहीं, दुरवस्था ही है और जब तक यह दुरवस्था कायम है, हमें अपने-आप को, सही अर्थों में शिक्षित और सुसंस्कृत मानने का ठीक-ठीक न्यायसंगत अधिकार नहीं।

भारत में शिक्षित व्यक्ति किसे माना जाता है ?

- (1) जिसे हिंदी आती हो।
- (2) जिसे मातृभाषा आती हो।
- (3) जिसे अंग्रेजी आती हो।
- (4) जिसे सभी भारतीय भाषाएँ आती हों।

Options :

- 212207118933 1  
212207118934 2  
212207118935 3  
212207118936 4

Question Number : 65 Question Id : 212207129735 Question Type : MCQ Option Shuffling : No Is Question Mandatory : No Calculator : None  
Response Time : N.A Think Time : N.A Minimum Instruction Time : 0  
Correct Marks : 5 Wrong Marks : 1

Question Key Details :

Key	Value
Comprehension	Comp2

### निम्नलिखित गद्यांश को पढ़कर नीचे दिए गए प्रश्नों के सही उत्तर दीजिए :

संसार के सभी देशों में शिक्षित व्यक्ति को सबसे पहली पहचान यह होती है कि वह अपनी मातृभाषा में दक्षता से काम कर सकता है। केवल भारत ही एक देश है जिसमें शिक्षित व्यक्ति वह समझा जाता है जो अपनी मातृभाषा में दक्ष हो या नहीं, किंतु अंग्रेजी में जिसको दक्षता असंदिग्ध हो। संसार के अन्य देशों में सुसंस्कृत व्यक्ति वह समझा जाता है जिसके घर में अपनी भाषा की पुस्तकों का संग्रह हो और जिसे बराबर वह पता रहे कि उसकी भाषा के अच्छे लेखक और कवि कौन हैं तथा समय-समय पर उनकी कौन-सी कृतियाँ प्रकाशित हो रही हैं। भारत में स्थिति दूसरी है। यहाँ प्रायः घर में साज-सज्जा के आधुनिक उपकरण तो होते हैं किंतु अपनी भाषा की कोई पुस्तक या पत्रिका दिखाई नहीं पड़ती। यह दुरवस्था भले ही भले ही किसी ऐतिहासिक प्रक्रिया का परिणाम है, किंतु वह सुदृशा नहीं, दुरवस्था ही है और जब तक यह दुरवस्था कायम है, हमें अपने-आप को, सही अर्थों में शिक्षित और सुसंस्कृत मानने का ठीक-ठीक न्यायसंगत अधिकार नहीं।

‘संसार’ शब्द का पर्याय है :

- (1) धरती
- (2) धरा
- (3) जगत
- (4) पृथ्वी

Options :

- 212207118937 1



212807118938 1

212807118939 3

212807118940 4

Sub-Section Number :

4

Sub-Section Id :

2128072148

Question Shuffling Allowed :

Yes

Is Section Default? :

null

Question Number : 66 Question Id : 21280729656 Question Type : MCQ Option Shuffling : No Is Question Mandatory : No Calculator : None  
Response Time : N.A Think Time : N.A Minimum Instruction Time : 0

Correct Marks : 5 Wrong Marks : 1

Question Key Details :

Key	Value
Comprehension	MCQ

निम्नलिखित मुहावरे का अर्थ पहचानिए -

'किताबी कौड़ा होना'

- (1) क्रेवल पढ़ने में लगे रहना
- (2) मारा-मारा फिरना
- (3) दबाव में होना
- (4) व्यर्थ कल्पना करना

Options :

212807118741 1

212807118742 2

212807118743 3

212807118744 4

Question Number : 67 Question Id : 21280729657 Question Type : MCQ Option Shuffling : No Is Question Mandatory : No Calculator : None  
Response Time : N.A Think Time : N.A Minimum Instruction Time : 0

Correct Marks : 5 Wrong Marks : 1

Question Key Details :

Key	Value
Comprehension	MCQ

सूची-I से सूची-II का मिलान कीजिए :

सूची-I

सूची-II

- |                         |                          |
|-------------------------|--------------------------|
| (A) गागर में सागर भरना  | (I) भेद खुलना            |
| (B) कलाई खुलना          | (II) थोड़े में बहुत कहना |
| (C) पेट में चूहे दीड़ना | (III) गहरी नींद में सोना |
| (D) घोड़े बेचकर सोना    | (IV) बहुत भूख लगना       |

नीचे दिए गए विकल्पों में से सही उत्तर का चयन कीजिए :

- (1) (A)-(II), (B)-(I), (C)-(III), (D)-(IV)
- (2) (A)-(II), (B)-(I), (C)-(IV), (D)-(III)
- (3) (A)-(II), (B)-(III), (C)-(I), (D)-(IV)
- (4) (A)-(I), (B)-(II), (C)-(III), (D)-(IV)

Options :

212807118745 1

212807118746 2

212807118747 3

212807118748 4

Question Number : 68 Question Id : 21260719655 Question Type : MCQ Option Shuffling : No Is Question Mandatory : No Calculator : None  
Response Time : N.A Think Time : N.A Minimum Instruction Time : 0

Correct Marks : 5 Wrong Marks : 1

Question Key Details :

Key	Value
Comprehension	MCQ

पुनर्जन्म शब्द में उपसर्ग होगा :

- (1) पुनर
- (2) पुष
- (3) पुनरा
- (4) पुन

Options :

212607118749 1

212607118750 2

212607118751 3

212607118752 4

Question Number : 69 Question Id : 21260719659 Question Type : MCQ Option Shuffling : No Is Question Mandatory : No Calculator : None  
Response Time : N.A Think Time : N.A Minimum Instruction Time : 0

Correct Marks : 5 Wrong Marks : 1

Question Key Details :

Key	Value
Comprehension	MCQ

'मीसेरा' शब्द में कौन-सा प्रत्यय प्रयोग हुआ है ?

- (1) एरा
- (2) अरा
- (3) रा
- (4) ऐरा

Options :

212607118753 1

212607118754 2

212607118755 3

212607118756 4

Question Number : 70 Question Id : 21260719690 Question Type : MCQ Option Shuffling : No Is Question Mandatory : No Calculator : None  
Response Time : N.A Think Time : N.A Minimum Instruction Time : 0

Correct Marks : 5 Wrong Marks : 1

Question Key Details :

Key	Value
Comprehension	MCQ

दशा वाचक गुण विशेषण बताइए :

- (1) लाल
- (2) समान
- (3) दुबला
- (4) पंजाबी

Options :

212607118757 1

212607118758 2

212607118759 3

212607118760 4

Question Number : 71 Question Id : 21250719691 Question Type : MCQ Option Shuffling : No Is Question Mandatory : No Calculator : None  
Response Time : N.A Think Time : N.A Minimum Instruction Time : 0

Correct Marks : 5 Wrong Marks : 1

Question Key Details :

Key	Value
Comprehension	MCQ

'लजीज' शब्द के लिए उपयुक्त विशेष्य होगा :

- (1) पुत्र
- (2) साधन
- (3) भोजन
- (4) आभूषण

Options :

212507118761 1

212507118762 2

212507118763 3

212507118764 4

Question Number : 72 Question Id : 21250719691 Question Type : MCQ Option Shuffling : No Is Question Mandatory : No Calculator : None  
Response Time : N.A Think Time : N.A Minimum Instruction Time : 0

Correct Marks : 5 Wrong Marks : 1

Question Key Details :

Key	Value
Comprehension	MCQ

सूची-I से सूची-II का मिलान कीजिए :

सूची-I

( वाक्य )

- (A) वह नदी से निकल रहा है।
- (B) यह श्याम की किताब है।
- (C) गीता बेटी के लिए खिलौने खरीद रही है।
- (D) मित्रों! चलो, खेलने चलें।

सूची-II

( कारक )

- (I) संबोधन कारक
- (II) सम्प्रदान कारक
- (III) संबंध कारक
- (IV) अपादान कारक

नीचे दिए गए विकल्पों में से सही उत्तर का चयन कीजिए :

- (1) (A)-(III), (B)-(II), (C)-(IV), (D)-(I)
- (2) (A)-(IV), (B)-(III), (C)-(II), (D)-(I)
- (3) (A)-(I), (B)-(II), (C)-(IV), (D)-(III)
- (4) (A)-(II), (B)-(IV), (C)-(III), (D)-(I)

Options :

212507118765 1

212507118766 2

212507118767 3

212507118768 4

Question Number : 73 Question Id : 21250719691 Question Type : MCQ Option Shuffling : No Is Question Mandatory : No Calculator : None  
Response Time : N.A Think Time : N.A Minimum Instruction Time : 0

Correct Marks : 5 Wrong Marks : 1

Question Key Details :

Key	Value
Comprehension	MCQ

सूची-I से सूची-II का मिलान कीजिए :

सूची-I

( वाक्य )

- (A) अध्यापक कक्षा से निकला  
(B) योगेश की चढ़ी सुंदर है  
(C) बस में बहुत भीड़ है  
(D) उमेश ने पुत्री को खिलाया

सूची-II

( कारक )

- (I) अधिकरण कारक  
(II) कर्म कारक  
(III) संबंध कारक  
(IV) अपादान कारक

नीचे दिए गए विकल्पों में से सही उत्तर का चयन कीजिए :

- (1) (A)-(I), (B)-(II), (C)-(III), (D)-(IV)  
(2) (A)-(IV), (B)-(I), (C)-(II), (D)-(III)  
(3) (A)-(IV), (B)-(III), (C)-(I), (D)-(II)  
(4) (A)-(III), (B)-(IV), (C)-(II), (D)-(I)

Options :

- 212807118769 1  
212807118770 2  
212807118771 3  
212807118772 4

Question Number : 74 Question Id : 21280719694 Question Type : MCQ Option Shuffling : No Is Question Mandatory : No Calculator : None  
Response Time : N.A Think Time : N.A Minimum Instruction Time : 0

Correct Marks : 5 Wrong Marks : 1

Question Key Details :

Key	Value
Comprehension	MCQ

जब कर्ता स्वयं कार्य न करके, अन्य को कार्य करने के लिए प्रेरित करता है, तब वह क्रिया कहलाती है :

- (1) सहायक क्रिया  
(2) अकर्मक क्रिया  
(3) सकर्मक क्रिया  
(4) प्रेरणार्थक क्रिया

Options :

- 212807118773 1  
212807118774 2  
212807118775 3  
212807118776 4

Question Number : 75 Question Id : 21280719695 Question Type : MCQ Option Shuffling : No Is Question Mandatory : No Calculator : None  
Response Time : N.A Think Time : N.A Minimum Instruction Time : 0

Correct Marks : 5 Wrong Marks : 1

Question Key Details :

Key	Value
Comprehension	MCQ

'राम सो रहा है।'

उपर्युक्त वाक्यांश में कौन-सी क्रिया है :

- (1) प्रेरणार्थक
- (2) द्विकर्मक
- (3) अकर्मक
- (4) सकर्मक

Options :

212807118777 1

212807118778 2

212807118779 3

212807118780 4

Question Number : 76 Question Id : 21280729696 Question Type : MCQ Option Shuffling : No Is Question Mandatory : No Calculator : None Response Time : N.A Think Time : N.A Minimum Instruction Time : 0

Correct Marks : 5 Wrong Marks : 1

Question Key Details :

Key	Value
Comprehension	MCQ

कालवाचक अव्यय बताइए :

- (1) अब से ऐसी बात नहीं होगी
- (2) वह यहाँ नहीं है।
- (3) तुम इधर आओ
- (4) घर के भीतर जाओ

Options :

212807118781 1

212807118782 2

212807118783 3

212807118784 4

Question Number : 77 Question Id : 21280729697 Question Type : MCQ Option Shuffling : No Is Question Mandatory : No Calculator : None Response Time : N.A Think Time : N.A Minimum Instruction Time : 0

Correct Marks : 5 Wrong Marks : 1

Question Key Details :

Key	Value
Comprehension	MCQ

'मातृ = उपदेश' की उचित सीध है :

- (1) मात्रुपदेश
- (2) मातृपदेश
- (3) मातृपदेश
- (4) मात्राउपदेश

Options :

212807118785 1

212807118786 2

212807118787 3

212807118788 4

Question Number : 78 Question Id : 21280729698 Question Type : MCQ Option Shuffling : No Is Question Mandatory : No Calculator : None Response Time : N.A Think Time : N.A Minimum Instruction Time : 0

Correct Marks : 5 Wrong Marks : 1

Question Key Details :

Key	Value
Comprehension	MCQ

'नारीच्छा' का सही संधि विच्छेद है:-

- (1) नारी + च्छा
- (2) नारी + इच्छा
- (3) नारी + ईच्छा
- (4) नारी + छा

Options :

- 212807118789 1  
212807118790 2  
212807118791 3  
212807118792 4

Question Number : 79 Question Id : 21280729699 Question Type : MCQ Option Shuffling : No Is Question Mandatory : No Calculator : None  
Response Time : N.A Think Time : N.A Minimum Instruction Time : 0

Correct Marks : 5 Wrong Marks : 1

Question Key Details :

Key	Value
Comprehension	MCQ

'ओ रहिम उत्तम प्रकृति का करि सकत कुरंग।

चन्दन विष ज्वाप्त नहीं, लिफटे रहत भुजंग।।'

इन पंक्तियों में कौन-सा छन्द है?

- (1) चौपाई
- (2) सोरठा
- (3) सबैया
- (4) दोहा

Options :

- 212807118793 1  
212807118794 2  
212807118795 3  
212807118796 4

Question Number : 80 Question Id : 21280729700 Question Type : MCQ Option Shuffling : No Is Question Mandatory : No Calculator : None  
Response Time : N.A Think Time : N.A Minimum Instruction Time : 0

Correct Marks : 5 Wrong Marks : 1

Question Key Details :

Key	Value
Comprehension	MCQ

नीचे दी कथन दिए गए हैं :

**कथन (I) :** जिस समाज में पहला पद विशेषण और दूसरा पद विशेष्य हो, तब कर्मधारय समास होता है।

**कथन (II) :** कर्मधारय समास में उपमेय, उपमान का संबंध होता है।

उपरोक्त कथन के आलोक में, नीचे दिए गए विकल्पों में से **सबसे उपयुक्त उत्तर** का चयन कीजिए :

- (1) कथन I और कथन II दोनों सही हैं
- (2) कथन I और कथन II दोनों गलत हैं
- (3) कथन I सही है, लेकिन कथन II गलत है
- (4) कथन I गलत है, लेकिन कथन II सही है

Options :

- 212807118797 1  
212807118798 2  
212807118799 3  
212807118800 4

Question Number : 81 Question Id : 21280729701 Question Type : MCQ Option Shuffling : No Is Question Mandatory : No Calculator : None  
Response Time : N.A Think Time : N.A Minimum Instruction Time : 0

Correct Marks : 5 Wrong Marks : 1

Question Key Details :

Key	Value
Comprehension	MCQ

सूची-I से सूची-II का मिलान कीजिए :

सूची-I	सूची-II
(A) स्वर्ग प्राप्त	(I) तत्पूरूप समास
(B) दोपहर	(II) अव्ययी भाव समास
(C) प्रतिदिन	(III) द्विगु समास
(D) दाल-भात	(IV) द्वंद्व समास

नीचे दिए गए विकल्पों में से सही उत्तर का चयन कीजिए :

- (1) (A)-(I), (B)-(II), (C)-(III), (D)-(IV)  
(2) (A)-(I), (B)-(III), (C)-(II), (D)-(IV)  
(3) (A)-(IV), (B)-(III), (C)-(II), (D)-(I)  
(4) (A)-(II), (B)-(III), (C)-(IV), (D)-(I)

Options :

- 212807118801 1  
212807118802 2  
212807118803 3  
212807118804 4

Question Number : 82 Question Id : 21280729702 Question Type : MCQ Option Shuffling : No Is Question Mandatory : No Calculator : None  
Response Time : N.A Think Time : N.A Minimum Instruction Time : 0

Correct Marks : 5 Wrong Marks : 1

Question Key Details :

Key	Value
Comprehension	MCQ

तरुलताएँ झूम-झूम कर बालें कर रही थीं :

- (1) उपमा  
(2) मानवीकरण  
(3) रूपक  
(4) श्लेष

Options :

- 212807118805 1  
212807118806 2  
212807118807 3  
212807118808 4

Question Number : 83 Question Id : 21280729703 Question Type : MCQ Option Shuffling : No Is Question Mandatory : No Calculator : None  
Response Time : N.A Think Time : N.A Minimum Instruction Time : 0

Correct Marks : 5 Wrong Marks : 1

Question Key Details :

Key	Value
Comprehension	MCQ

जीवन-तरु की महिमा न्यारी। इस पंक्ति में प्रयुक्त अलंकार पहचानिए :

- (A) रूपक
- (B) अनुप्रास
- (C) वमक
- (D) श्लेष
- (E) उपमा

नीचे दिए गए विकल्पों में से सही उत्तर का चयन कीजिए :

- (1) केवल (A)
- (2) केवल (B) और (C)
- (3) केवल (E)
- (4) केवल (A) और (E)

Options :

- 212807113809 1
- 212807113810 2
- 212807113811 3
- 212807113812 4

Question Number : 84 Question Id : 21280729704 Question Type : MCQ Option Shuffling : No Is Question Mandatory : No Calculator : None Response Time : N.A Think Time : N.A Minimum Instruction Time : 0

Correct Marks : 5 Wrong Marks : 1

Question Key Details :

Key	Value
Comprehension	MCQ

नायक-नायिका के सौन्दर्य तथा प्रेम सम्बन्धी वर्णन किस रस में पाये जाते हैं ?

- (1) वात्सल्य रस
- (2) शान्त रस
- (3) करुण रस
- (4) शृंगार रस

Options :

- 212807113813 1
- 212807113814 2
- 212807113815 3
- 212807113816 4

Question Number : 85 Question Id : 21280729705 Question Type : MCQ Option Shuffling : No Is Question Mandatory : No Calculator : None Response Time : N.A Think Time : N.A Minimum Instruction Time : 0

Correct Marks : 5 Wrong Marks : 1

Question Key Details :

Key	Value
Comprehension	MCQ



'उपार्जित' शब्द का विलोम होगा :

- (1) स्वर्ष प्राप्त
- (2) उपजा हुआ
- (3) बंजर
- (4) ऊसर

Options :

- 212807118815 1  
212807118816 2  
212807118818 3  
212807118820 4

Question Number : 86 Question Id : 21280719706 Question Type : MCQ Option Shuffling : No Is Question Mandatory : No Calculator : None  
Response Time : N.A Think Time : N.A Minimum Instruction Time : 0

Correct Marks : 5 Wrong Marks : 1

Question Key Details :

Key	Value
Comprehension	MCQ

'आयोजन' शब्द का विलोम शब्द कौन-सा है ?

- (1) नियोजन
- (2) वियोजन
- (3) विघटन
- (4) वोजन

Options :

- 212807118821 1  
212807118822 2  
212807118823 3  
212807118824 4

Question Number : 87 Question Id : 21280719707 Question Type : MCQ Option Shuffling : No Is Question Mandatory : No Calculator : None  
Response Time : N.A Think Time : N.A Minimum Instruction Time : 0

Correct Marks : 5 Wrong Marks : 1

Question Key Details :

Key	Value
Comprehension	MCQ

'स्त्री' शब्द का स्त्रीलिंग कौन-सा सही है ?

- (A) पुरुष
- (B) मर्द
- (C) आदमी
- (D) व्यक्ति
- (E) महिला

नीचे दिए गए विकल्पों में से सही उत्तर का चयन कीजिए :

- (1) केवल (A)
- (2) केवल (B) और (C)
- (3) केवल (B), (C) और (D)
- (4) केवल (E)

Options :

- 212807118823 1  
212807118824 2  
212807118825 3  
212807118826 4

Question Number : 58 Question Id : 21280729708 Question Type : MCQ Option Shuffling : No Is Question Mandatory : No Calculator : None  
Response Time : N.A Think Time : N.A Minimum Instruction Time : 0

Correct Marks : 5 Wrong Marks : 1

Question Key Details :

Key	Value
Comprehension	MCQ

'आपके दर्शन दुर्लभ हैं'। वाक्य में कौन-सा शब्द वचन को दर्शा रहा है ?

- (1) आपके  
(2) दुर्लभ  
(3) दर्शन  
(4) हैं

Options :

- 212807118829 1  
212807118830 2  
212807118831 3  
212807118832 4

Question Number : 59 Question Id : 21280729709 Question Type : MCQ Option Shuffling : No Is Question Mandatory : No Calculator : None  
Response Time : N.A Think Time : N.A Minimum Instruction Time : 0

Correct Marks : 5 Wrong Marks : 1

Question Key Details :

Key	Value
Comprehension	MCQ

सूची-I से सूची-II का मिलान कीजिए :

सूची-I ( शब्द )	सूची-II ( पर्यायवाची )
(A) वीर	(I) उग्र
(B) संगम	(II) मेल
(C) सुन्दर	(III) रम्य
(D) सर्प	(IV) भुजंग

नीचे दिए गए विकल्पों में से सही उत्तर का चयन कीजिए :

- (1) (A)-(I), (B)-(II), (C)-(III), (D)-(IV)  
(2) (A)-(I), (B)-(II), (C)-(IV), (D)-(III)  
(3) (A)-(III), (B)-(IV), (C)-(II), (D)-(I)  
(4) (A)-(II), (B)-(III), (C)-(II), (D)-(I)

Options :

- 212807118833 1  
212807118834 2  
212807118835 3  
212807118836 4

Question Number : 90 Question Id : 21280729710 Question Type : MCQ Option Shuffling : No Is Question Mandatory : No Calculator : None  
Response Time : N.A Think Time : N.A Minimum Instruction Time : 0

Correct Marks : 5 Wrong Marks : 1

Question Key Details :

Key	Value
Comprehension	MCQ

सूची-I से सूची-II का मिलान कीजिए :

सूची-I

( शब्द )

(A) शेर

(B) स्तुति

(C) हथौड़ी

(D) विवाह

सूची-II

( पर्यायवाची )

(I) अर्चना

(II) शार्दूल

(III) परिणय

(IV) गज

नीचे दिए गए विकल्पों में से सही उत्तर का चयन कीजिए :

(1) (A)-(III), (B)-(I), (C)-(IV), (D)-(II)

(2) (A)-(I), (B)-(II), (C)-(IV), (D)-(III)

(3) (A)-(II), (B)-(III), (C)-(IV), (D)-(I)

(4) (A)-(II), (B)-(I), (C)-(IV), (D)-(III)

Options :

212507118837 1

212507118838 2

212507118839 3

212507118840 4

Question Number : 91 Question Id : 21250729711 Question Type : MCQ Option Shuffling : No Is Question Mandatory : No Calculator : None  
Response Time : N.A Think Time : N.A Minimum Instruction Time : 0

Correct Marks : 5 Wrong Marks : 1

Question Key Details :

Key	Value
Comprehension	MCQ

'मोक्ष की इच्छा रखने वाले' को कहते हैं -

(1) मोक्षी

(2) मुमुक्षु

(3) सुमुषु

(4) मोक्षेयु

Options :

212507118841 1

212507118842 2

212507118843 3

212507118844 4

Question Number : 92 Question Id : 21250729712 Question Type : MCQ Option Shuffling : No Is Question Mandatory : No Calculator : None  
Response Time : N.A Think Time : N.A Minimum Instruction Time : 0

Correct Marks : 5 Wrong Marks : 1

Question Key Details :

Key	Value
Comprehension	MCQ

'पवन है अशन जिसका वह' =

उपयुक्त शब्द चुनिए :

- (A) पवनाशी
- (B) पवना
- (C) पवनकुमार
- (D) पवनाशन
- (E) पवनसुत

नीचे दिए गए विकल्पों में से सही उत्तर का चयन कीजिए :

- (1) केवल (A) और (B)
- (2) केवल (C)
- (3) केवल (D) और (E)
- (4) केवल (D)

Options :

- 212507118843 1
- 212507118846 2
- 212507118847 3
- 212507118848 4

Question Number : 93 Question Id : 21250729713 Question Type : MCQ Option Shuffling : No Is Question Mandatory : No Calculator : None  
Response Time : N.A Think Time : N.A Minimum Instruction Time : 0  
Correct Marks : 5 Wrong Marks : 1

Question Key Details :

Key	Value
Comprehension	MCQ

'संकीर्ण' शब्द का अर्थ निम्नलिखित में से कौन-सा है ?

- (1) दक्षिणगामी
- (2) लघुवादो
- (3) संकुचित
- (4) नीचा

Options :

- 212507118849 1
- 212507118850 2
- 212507118851 3
- 212507118853 4

Question Number : 94 Question Id : 21250729714 Question Type : MCQ Option Shuffling : No Is Question Mandatory : No Calculator : None  
Response Time : N.A Think Time : N.A Minimum Instruction Time : 0  
Correct Marks : 5 Wrong Marks : 1

Question Key Details :

Key	Value
Comprehension	MCQ

निम्नलिखित शब्दों में से 'कर' शब्द का अर्थ नहीं है :

- (1) हाथ
- (2) किरण
- (3) ध्वनि
- (4) ओला

Options :

212807118853 1

212807118854 2

212807118855 3

212807118856 4

Question Number : 95 Question Id : 21280729715 Question Type : MCQ Option Shuffling : No Is Question Mandatory : No Calculator : None  
Response Time : N.A Think Time : N.A Minimum Instruction Time : 0

Correct Marks : 5 Wrong Marks : 1

Question Key Details :

Key	Value
Comprehension	MCQ

निम्न शब्दों में से शुद्ध शब्द चुनिए :

- (A) श्रेष्ठ
- (B) मिथ्यात
- (C) मख्वन
- (D) डाकू
- (E) चिह्न

नीचे दिए गए विकल्पों में से सही उत्तर का चयन कीजिए :

- (1) केवल (A) और (B)
- (2) केवल (C) और (D)
- (3) केवल (A), (B) और (E)
- (4) केवल (D), (E) और (A)

Options :

212807118857 1

212807118858 2

212807118859 3

212807118860 4

Question Number : 96 Question Id : 21280729716 Question Type : MCQ Option Shuffling : No Is Question Mandatory : No Calculator : None  
Response Time : N.A Think Time : N.A Minimum Instruction Time : 0

Correct Marks : 5 Wrong Marks : 1

Question Key Details :

Key	Value
Comprehension	MCQ

कीन-सा शब्द तत्सम है ?

- (A) चंचु
- (B) सुई
- (C) बच्चा
- (D) कऔ
- (E) जूता

नीचे दिए गए विकल्पों में से सही उत्तर का चयन कीजिए :

- (1) केवल (A)
- (2) केवल (B) और (D)
- (3) केवल (D) और (A)
- (4) केवल (E)

Options :

- 212807118861 1
- 212807118862 2
- 212807118863 3
- 212807118864 4

Question Number : 97 Question Id : 21280729717 Question Type : MCQ Option Shuffling : No Is Question Mandatory : No Calculator : None Response Time : N.A Think Time : N.A Minimum Instruction Time : 0

Correct Marks : 5 Wrong Marks : 1

Question Key Details :

Key	Value
Comprehension	MCQ

देशज शब्द बताइए :

- (A) मौर
- (B) शत
- (C) लोटा
- (D) खीर
- (E) आम

नीचे दिए गए विकल्पों में से सही उत्तर का चयन कीजिए :

- (1) केवल (A) और (B)
- (2) केवल (C) और (E)
- (3) केवल (C)
- (4) केवल (D)

Options :

- 212807118865 1
- 212807118866 2
- 212807118867 3
- 212807118868 4

Question Number : 98 Question Id : 21280729718 Question Type : MCQ Option Shuffling : No Is Question Mandatory : No Calculator : None Response Time : N.A Think Time : N.A Minimum Instruction Time : 0

Correct Marks : 5 Wrong Marks : 1

Question Key Details :

Key	Value
Comprehension	MCQ

नीचे दी हुई पंक्तियों को पढ़कर 'सूर्यकांत त्रिपाठी' से सम्बन्धित सही विकल्प को चुनिए -

- (A) इनका जन्म बंगाल में हुआ था।
- (B) इनका उपनाम 'अज्ञेय' भी है।
- (C) ये प्रख्यात कथाकार रहे हैं।
- (D) इनकी प्रसिद्ध कविता 'जूही की कली' है।
- (E) ये कश्मीर नागरी प्रचारिणी सभा के अध्यक्ष भी रहे हैं।

नीचे दिए गए विकल्पों में से सही उत्तर का चयन कीजिए :

- (1) केवल (B)
- (2) केवल (A) और (D)
- (3) केवल (C)
- (4) केवल (D) और (E)

Options :

112807118868 1

112807118870 2

112807118871 3

112807118872 4

Question Number : 99 Question Id : 11280719719 Question Type : MCQ Option Shuffling : No Is Question Mandatory : No Calculator : None Response Time : N.A Think Time : N.A Minimum Instruction Time : 0

Correct Marks : 5 Wrong Marks : 1

Question Key Details :

Key	Value
Comprehension	MCQ

'गोदान' के उपन्यासकार कौन हैं?

- (1) फणीश्वरनाथ रेणु
- (2) प्रेमचन्द
- (3) मन्नू भंडारी
- (4) मोहन राकेश

Options :

112807118873 1

112807118874 2

112807118875 3

112807118876 4

Question Number : 100 Question Id : 11280729720 Question Type : MCQ Option Shuffling : No Is Question Mandatory : No Calculator : None Response Time : N.A Think Time : N.A Minimum Instruction Time : 0

Correct Marks : 5 Wrong Marks : 1

Question Key Details :

Key	Value
Comprehension	MCQ

नीचे दो कथन दिए गए हैं :

**कथन (I) :** निबंध लेखन में मुख्यता तीन बिंदुओं पर अधिक ध्यान दिया जाता है।

**कथन (II) :** प्रस्तावना, मुख्य अंश, उपसंहार इन तीन बिंदुओं का समावेश होता है।

उपरोक्त कथन के आलोक में, नीचे दिए गए विकल्पों में से **सबसे उपयुक्त उत्तर** कथन को जिए :

- (1) कथन I और कथन II दोनों सत्य हैं
- (2) कथन I और कथन II दोनों असत्य हैं
- (3) कथन I सत्य है, लेकिन कथन II असत्य है
- (4) कथन I असत्य है, लेकिन कथन II सत्य है

Options :

212807118877 1

212807118878 2

212807118879 3

212807118880 4

### Bengali

Group Number :	3
Group Id :	212807642
Group Maximum Duration :	45
Group Minimum Duration :	45
Show Attended Group? :	No
Edit Attended Group? :	No
Break time :	0
Group Marks :	200
Is this Group for Examiner? :	No
Examiner permission :	Can View
Show Progress Bar? :	No

### Bengali

Section Id :	212807750
Section Number :	1
Section type :	Online
Mandatory or Optional :	Mandatory
Number of Questions :	50
Number of Questions to be attempted :	40
Section Marks :	200
Enable Mark as Answered Mark for Review and Clear Response :	Yes
Maximum Instruction Time :	0
Sub-Section Number :	1
Sub-Section Id :	2128072148
Question Shuffling Allowed :	No
Is Section Default? :	null

Question Number : 101 Question Id : 21280729571 Question Type : MCQ Option Shuffling : No Is Question Mandatory : No Calculator : None  
Response Time : N.A Think Time : N.A Minimum Instruction Time : 0

Correct Marks : 5 Wrong Marks : 1

Question Key Details :

Key	Value
Comprehension	Compl.



অনুচ্ছেদটি পড়ো ও প্রশ্নগুলির উত্তর দাও :

প্রাচীন ভারতে গ্রামের চারিটি বিভাগ ছিল বলিয়া বোধ হয়। মানসার নির্দেশ করিয়াছে যে, গ্রামের ব্রাহ্ম্য, দিবা, মনুষ্য ও পৈশাচ এই চারিটি বিভাগ। ব্রাহ্ম্য বিভাগে  $\frac{2}{16}$  ব্রাহ্মণ, দিবা বিভাগে  $\frac{5}{16}$  কহ্লির, মনুষ্য বিভাগে  $\frac{8}{16}$  বৈশ্য ও পৈশাচ বিভাগে  $\frac{9}{16}$  শূত্র থাকিবে। যে গ্রাম বা পুর সম্পূর্ণ ছিল না, তাহার একপ বিভাগও থাকিত না। শুক্রনীতির (১ম, অ° ৫৬, ৫৭ শ্লোক) নির্দেশ আছে যে, গ্রামে বা নগরে এক এক জাতির বাড়ী শ্রেণীবদ্ধ আকারে থাকিবে আর সে পঞ্জিক্তির নাম হইবে 'সমুদায়'। বাঙ্গারে এক এক রকমের দোকান (আপনি) পৃথক পৃথক পঞ্জিক্তিতে সাজান থাকিবে। কোটিল্যের অর্থশাস্ত্রেও (২, ৪) নির্দেশ আছে যে পৃথক পৃথক সস্ত্রলয়া পৃথক পৃথক স্থানে থাকিবে। ভিন্ন ভিন্ন দ্রব্য ব্যবসায়ীরা স্বতন্ত্র স্থানে থাকিবে। কেবল চণ্ডাল প্রভৃতি নিম্নতম জাতির তাহাদের কৃত মূণ্য কর্মের জন্য গ্রামের বাহিরে থাকিবে (অর্থশাস্ত্র, ৪.২)। বৌদ্ধযুগে গ্রামগুলি ধনক্ষেতের ধারে দারে কতকগুলি কুটার লইয়া সংস্থিত থাকিত। দুইখানি গ্রামের মধ্যে একটি মহাবনের ব্যবধান থাকিত।

গ্রামে ছোট ছোট মোকদ্দমা উপস্থিত হইলে 'গ্রামা-বাদী'রা বিচার করিয়া দণ্ডবিধান করিতেন। গ্রামে একজন যোদ্ধ কর্মব্যাক ও কিছু সেনা থাকিত। ইহাদের কাজ ছিল গ্রাম রক্ষা করা। প্রত্যেক গ্রামের একজন অধিপতি থাকিত। অধিপতিকে 'গ্রামণী' বলিত। গ্রামণীর military ও civil উভয় ক্ষমতাই ছিল। এছাড়া একটি গ্রামের যিনি অধিক তাহার নাম হইত 'গ্রামিক'। দশটি গ্রামের অধিক 'দশপ' নামে পরিচিত হইত। একটি পরিবারের উপযোগী শস্য গ্রামিক ভোগ করিত। 'গ্রামভোজক' শস্যের কর নির্ধারণ করিয়া দিত।

প্রাচীন ভারতে গ্রামের বিভাগ ছিল —

- (1) ৩ টি
- (2) ৪ টি
- (3) ৫ টি
- (4) ৬ টি

Options :

- 212807118261 1
- 212807118262 2
- 212807118263 3
- 212807118264 4

Question Number : 102 Question Id : 21280719572 Question Type : MCQ Option Shuffling : No Is Question Mandatory : No Calculator : None  
Response Time : N/A Think Time : N/A Minimum Instruction Time : 0

Correct Marks : 5 Wrong Marks : 1

Question Key Details :

Key	Value
Comprehension	Comp1

অনুচ্ছেদটি পড়ো ও প্রশ্নগুলির উত্তর দাও :

প্রাচীন ভারতে গ্রামের চারিটি বিভাগ ছিল বলিয়া বোধ হয়। মানসার নির্দেশ করিয়াছে যে, গ্রামের ব্রাহ্ম্য, দিবা, মনুষ্য ও পৈশাচ এই চারিটি বিভাগ। ব্রাহ্ম্য বিভাগে  $\frac{১}{১৬}$  ব্রাহ্মণ, দিবা বিভাগে  $\frac{৫}{১৬}$  কহ্লির, মনুষ্য বিভাগে  $\frac{৪}{১৬}$  বৈশ্য ও পৈশাচ বিভাগে  $\frac{৭}{১৬}$  শূত্র থাকিবে। যে গ্রাম বা পুর সম্পূর্ণ ছিল না, তাহার একপ বিভাগও থাকিত না। শুক্রনীতির (১ম, অ° ৫৬, ৫৭ শ্লোক) নির্দেশ আছে যে, গ্রামে বা নগরে এক এক জাতির বাড়ী শ্রেণীবদ্ধ আকারে থাকিবে আর সে পঞ্জক্তির নাম হইবে 'সমুদায়'। বাঙ্গারে এক এক রকমের দোকান (আপনি) পৃথক পৃথক পঞ্জক্তিতে সাজান থাকিবে। কোটিল্যের অর্থশাস্ত্রেও (২, ৪) নির্দেশ আছে যে পৃথক পৃথক সস্ত্রলয় পৃথক পৃথক স্থানে থাকিবে। ভিন্ন ভিন্ন দ্রব্য ব্যবসায়ীরা স্বতন্ত্র স্থানে থাকিবে। কেবল চণ্ডাল প্রভৃতি নিম্নতম জাতির তাহাদের কৃত মূগ্য কর্মের জন্য গ্রামের বাহিরে থাকিবে (অর্থশাস্ত্র, ৪.২)। বৌদ্ধযুগে গ্রামগুলি ধনক্ষেত্রের ধারে দারে কতকগুলি কুটার লইয়া সংস্থিত থাকিত। দুইখানি গ্রামের মধ্যে একটি মহাবনের ব্যবধান থাকিত।

গ্রামে ছোট ছোট মোকদ্দমা উপস্থিত হইলে 'গ্রামা-বাদী'রা বিচার করিয়া দণ্ডবিধান করিতেন। গ্রামে একজন যোদ্ধ কর্মব্যাক ও কিছু সেনা থাকিত। ইহাদের কাজ ছিল গ্রাম রক্ষা করা। প্রত্যেক গ্রামের একজন অধিপতি থাকিত। অধিপতিকে 'গ্রামণী' বলিত। গ্রামণীর military ও civil উভয় ক্ষমতাই ছিল। এছাড়া একটি গ্রামের যিনি অধিক তাহার নাম হইত 'গ্রামিক'। দশটি গ্রামের অধিক 'দশপ' নামে পরিচিত হইত। একটি পরিবারের উপযোগী শস্য গ্রামিক ভোগ করিত। 'গ্রামভোজক' শস্যের কর নির্ধারণ করিয়া দিত।

গ্রামে বা নগরে শ্রেণিবদ্ধভাবে থাকা বাড়িগুলির সারিকে কী বলা হতো ?

- (1) পৈশাচ
- (2) পঞ্জক্তি
- (3) সমুদায়
- (4) শ্রেণিকরণ

Options :

212807118265-1

212807118266-2

212807118267-3

212807118268-4

Question Number : 103 Question Id : 21280719573 Question Type : MCQ Option Shuffling : No Is Question Mandatory : No Calculator : None  
Response Time : N/A Think Time : N/A Minimum Instruction Time : 0

Correct Marks : 5 Wrong Marks : 1

Question Key Details :

Key	Value
Comprehension	Comp1

অনুচ্ছেদটি পড়ো ও প্রশ্নগুলির উত্তর দাও :

প্রাচীন ভারতে গ্রামের চারিটি বিভাগ ছিল বলিয়া বোধ হয়। মানসার নির্দেশ করিয়াছে যে, গ্রামের ব্রাহ্ম্য, দিবা, মনুষ্য ও পৈশাচ এই চারিটি বিভাগ। ব্রাহ্ম্য বিভাগে  $\frac{১}{১৬}$  ব্রাহ্মণ, দিবা বিভাগে  $\frac{৫}{১৬}$  কহ্লির, মনুষ্য বিভাগে  $\frac{৪}{১৬}$  বৈশ্য ও পৈশাচ বিভাগে  $\frac{৬}{১৬}$  শূত্র থাকিবে। যে গ্রাম বা পুর সম্পূর্ণ ছিল না, তাহার একপ বিভাগও থাকিত না। শুক্রনীতির (১ম, অ° ৫৬, ৫৭ শ্লোক) নির্দেশ আছে যে, গ্রামে বা নগরে এক এক জাতির বাড়ী শ্রেণীবদ্ধ আকারে থাকিবে আর সে পঙক্তির নাম হইবে 'সমুদায়'। বাড়ারে এক এক রকমের দোকান (আপনি) পৃথক পৃথক পঙক্তিতে সাজান থাকিবে। কোটিল্যের অর্থশাস্ত্রেও (২, ৪) নির্দেশ আছে যে পৃথক পৃথক সস্ত্রলয় পৃথক পৃথক স্থানে থাকিবে। ভিন্ন ভিন্ন দ্রব্য ব্যবসায়ীরা স্বতন্ত্র স্থানে থাকিবে। কেবল চণ্ডাল প্রভৃতি নিম্নতম জাতির তাহাদের কৃত মূগ্য কর্মের জন্য গ্রামের বাহিরে থাকিবে (অর্থশাস্ত্র, ৪, ২)। বৌদ্ধযুগে গ্রামগুলি ধনক্ষেত্রের ধারে দারে কতকগুলি কুটার লইয়া সংস্থিত থাকিত। দুইখানি গ্রামের মধ্যে একটি মহাবনের ব্যবধান থাকিত।

গ্রামে ছোট ছোট মোকদ্দমা উপস্থিত হইলে 'গ্রামা-বাদী'রা বিচার করিয়া দণ্ডবিধান করিতেন। গ্রামে একজন যোদ্ধ কর্মব্যাক ও কিছু সেনা থাকিত। ইহাদের কাজ ছিল গ্রাম রক্ষা করা। প্রত্যেক গ্রামের একজন অধিপতি থাকিত। অধিপতিকে 'গ্রামণী' বলিত। গ্রামণীর military ও civil উভয় ক্ষমতাই ছিল। এছাড়া একটি গ্রামের যিনি অধিক তাহার নাম হইত 'গ্রামিক'। দশটি গ্রামের অধিক 'দশপ' নামে পরিচিত হইত। একটি পরিবারের উপযোগী শস্য গ্রামিক ভোগ করিত। 'গ্রামভোজক' শস্যের কর নির্ধারণ করিয়া দিত।

তালিকা I এর সঙ্গে তালিকা II মেলাও :

তালিকা I	তালিকা II
(A) ব্রাহ্ম্য বিভাগ	(I) $\frac{১}{১৬}$
(B) মনুষ্য বিভাগ	(II) $\frac{৫}{১৬}$
(C) দিবা বিভাগ	(III) $\frac{৪}{১৬}$
(D) পৈশাচ বিভাগ	(IV) $\frac{৬}{১৬}$

নিম্ন প্রদত্ত বিকল্পগুলি থেকে সঠিক উত্তরটি বেছে নাও :

- (1) (A)-(IV), (B)-(III), (C)-(II), (D)-(I)
- (2) (A)-(III), (B)-(II), (C)-(IV), (D)-(I)
- (3) (A)-(I), (B)-(IV), (C)-(II), (D)-(III)
- (4) (A)-(I), (B)-(III), (C)-(II), (D)-(IV)

Options :

212807118269 1

212807118269 2

212807118269 3

212807118269 4

Question Number : 104 Question Id : 21280719574 Question Type : MCQ Option Shuffling : No Is Question Mandatory : No Calculator : None

Response Time : N.A Think Time : N.A Minimum Instruction Time : 0

Correct Marks : 5 Wrong Marks : 1

Question Key Details :

Key	Value
Comprehension	Contpl

অনুচ্ছেদটি পড়ে ও প্রশ্নগুলির উত্তর দাও :

প্রাচীন ভারতে গ্রামের চারিটি বিভাগ ছিল বলিয়া বোধ হয়। মানসার নির্দেশ করিয়াছে যে, গ্রামের ব্রাহ্ম্য, দিবা, মনুষ্য ও পৈশাচ এই চারিটি বিভাগ। ব্রাহ্ম্য বিভাগে  $\frac{১}{১৬}$  ব্রাহ্মণ, দিবা বিভাগে  $\frac{৫}{১৬}$  কহ্লির, মনুষ্য বিভাগে  $\frac{৪}{১৬}$  বৈশ্য ও পৈশাচ বিভাগে  $\frac{৭}{১৬}$  শূত্র থাকিবে। যে গ্রাম বা পুর সম্পূর্ণ ছিল না, তাহার একপ বিভাগও থাকিত না। শুক্রনীতির (১ম, অ° ৫৬, ৫৭ শ্লোক) নির্দেশ আছে যে, গ্রামে বা নগরে এক এক জাতির বাড়ী শ্রেণীবদ্ধ আকারে থাকিবে আর সে পঞ্জিক্তির নাম হইবে 'সমুদায়'। বাঙ্গারে এক এক রকমের দোকান (আপনি) পৃথক পৃথক পঞ্জিক্তিতে সাজান থাকিবে। কৌটিল্যের অর্থশাস্ত্রেও (২, ৪) নির্দেশ আছে যে পৃথক পৃথক সস্ত্রলয়া পৃথক পৃথক স্থানে থাকিবে। ভিন্ন ভিন্ন দ্রব্য ব্যবসায়ীরা স্বতন্ত্র স্থানে থাকিবে। কেবল চণ্ডাল প্রভৃতি নিম্নতম জাতির তাহাদের কৃত মূগ্য কর্মের জন্য গ্রামের বাহিরে থাকিবে (অর্থশাস্ত্র, ৪.২)। বৌদ্ধযুগে গ্রামগুলি ধনক্ষেত্রের ধারে দারে কতকগুলি কুটার লইয়া সংস্থিত থাকিত। দুইখানি গ্রামের মধ্যে একটি মহাবনের ব্যবধান থাকিত।

গ্রামে ছোট ছোট মোকদ্দমা উপস্থিত হইলে 'গ্রামা-বাদী'রা বিচার করিয়া দণ্ডবিধান করিতেন। গ্রামে একজন যোদ্ধ কর্মব্যাক ও কিছু সেনা থাকিত। ইহাদের কাজ ছিল গ্রাম রক্ষা করা। প্রত্যেক গ্রামের একজন অধিপতি থাকিত। অধিপতিকে 'গ্রামণী' বলিত। গ্রামণীর military ও civil উভয় ক্ষমতাই ছিল। এছাড়া একটি গ্রামের যিনি অধ্যক্ষ তাহার নাম হইত 'গ্রামিক'। দশটি গ্রামের অধ্যক্ষ 'দশপ' নামে পরিচিত হইত। একটি পরিবারের উপযোগী শস্য গ্রামিক ভোগ করিত। 'গ্রামভোজক' শস্যের কর নির্ধারণ করিয়া দিত।

অর্থশাস্ত্রের রচয়িতা —

- (1) ভরতমুনি
- (2) মনিসস্ত
- (3) ব্যাসদেব
- (4) কৌটিল্য

Options :

- 212807118293 1
- 212807118294 2
- 212807118295 3
- 212807118296 4

Question Number : 105 Question Id : 21280712975 Question Type : MCQ Option Shuffling : No Is Question Mandatory : No Calculator : None  
Response Time : N.A Think Time : N.A Minimum Instruction Time : 0

Correct Marks : 5 Wrong Marks : 1

Question Key Details :

Key	Value
Comprehension	Comp1

অনুচ্ছেদটি পড়ো ও প্রশ্নগুলির উত্তর দাও :

প্রাচীন ভারতে গ্রামের চারিটি বিভাগ ছিল বলিয়া বোধ হয়। মানসার নির্দেশ করিয়াছে যে, গ্রামের ব্রাহ্মণ, দিবা, মনুষ্য ও পৈশাচ এই চারিটি বিভাগ। ব্রাহ্মণ বিভাগে  $\frac{2}{12}$  ব্রাহ্মণ, দিবা বিভাগে  $\frac{5}{12}$  কহ্লির, মনুষ্য বিভাগে  $\frac{8}{12}$  বৈশ্য ও পৈশাচ বিভাগে  $\frac{9}{12}$  শূত্র থাকিবে। যে গ্রাম বা পুর সম্পূর্ণ ছিল না, তাহার একপ বিভাগও থাকিত না। শুক্রনীতির (১ম, অ° ৫৬, ৫৭ শ্লোক) নির্দেশ আছে যে, গ্রামে বা নগরে এক এক জাতির বাড়ী শ্রেণীবদ্ধ আকারে থাকিবে আর সে পঙক্তির নাম হইবে 'সমুদায়'। বাঙ্গারে এক এক রকমের দোকান (আপনি) পৃথক পৃথক পঙক্তিতে সাজান থাকিবে। কোটিল্যের অর্থশাস্ত্রেও (২, ৪) নির্দেশ আছে যে পৃথক পৃথক সস্ত্রলয় পৃথক পৃথক স্থানে থাকিবে। ভিন্ন ভিন্ন দ্রব্য ব্যবসায়ীরা স্বতন্ত্র স্থানে থাকিবে। কেবল চণ্ডাল প্রভৃতি নিম্নতম জাতির তাহাদের কৃত মূণ্য কর্মের জন্য গ্রামের বাহিরে থাকিবে (অর্থশাস্ত্র, ৪.২)। বৌদ্ধযুগে গ্রামগুলি ধনক্ষেত্রের ধারে দারে কতকগুলি কুটার লইয়া সংস্থিত থাকিত। দুইখানি গ্রামের মধ্যে একটি মহাবনের ব্যবধান থাকিত।

গ্রামে ছোট ছোট মোকদ্দমা উপস্থিত হইলে 'গ্রামা-বাদী'রা বিচার করিয়া দণ্ডবিধান করিতেন। গ্রামে একজন যোদ্ধ কর্মব্যাক ও কিছু সেনা থাকিত। ইহাদের কাজ ছিল গ্রাম রক্ষা করা। প্রত্যেক গ্রামের একজন অধিপতি থাকিত। অধিপতিকে 'গ্রামণী' বলিত। গ্রামণীর military ও civil উভয় ক্ষমতাই ছিল। এছাড়া একটি গ্রামের যিনি অধিক তাহার নাম হইত 'গ্রামিক'। দশটি গ্রামের অধিক 'দশপ' নামে পরিচিত হইত। একটি পরিবারের উপযোগী শস্য গ্রামিক ভোগ করিত। 'গ্রামভোজক' শস্যের কর নির্ধারণ করিয়া দিত।

দশটি গ্রামের অধিককে বলা হতো —

- (1) গ্রামণী
- (2) দশপ
- (3) গ্রামিক
- (4) গ্রামাবাদী

Options :

- 112807118297 1  
112807118298 2  
112807118299 3  
112807118500 4

Sub-Section Number : 2  
Sub-Section Id : 1128072150  
Question Shuffling Allowed : No  
Is Section Default? : null

Question Number : 106 Question Id : 11280729576 Question Type : MCQ Option Shuffling : No Is Question Mandatory : No Calculator : None  
Response Time : N.A Think Time : N.A Minimum Instruction Time : 0  
Correct Marks : 5 Wrong Marks : 1  
Question Key Details :

Key	Value
Comprehension	Comp1

অনুচ্ছেদটি পড়ে ও প্রশ্নগুলির উত্তর দাও :

এক রাজার দুই রাণী, সুয়োরাণী আর দুয়োরাণী। সুয়োরাণী যে, নুনটুকু উন হইতেই নখের আধায় আঁচড় কাটিয়া, ঘর-কমায় ভাগ বাঁটিয়া সতীনকে একপাশ করিয়া দেয়। দুঃখে দুয়োরাণীর দিন কাটে।

সুয়োরাণীর ছেলে পিলে হয় না। দুয়োরাণীর দুই ছেলে — শীত আর বসন্ত। আহা, ছেলে নিয়া দুয়োরাণীর যে যজ্ঞণা! — রাজার রাজপুত্র, সৎ মায়ের গঞ্জনা খাইতে-খাইতে দিন যায়।

একদিন নদীর ঘাটে হান করিতে গিয়া সুয়োরাণী দুয়োরাণীকে ডাকিয়া বলিল — “আর তো, তোর মাথায় ফার খেঁকা নিয়া দি।” ফার খেঁকা দিতে-দিতে সুয়োরাণী চুপ করিয়া দুয়োরাণীর মাথায় এক শুকুধের বড়ি টিপিয়া দিল। দুঃখিনী দুয়োরাণী টিয়া হইয়া “টি, টি” করিতে-করিতে উড়িয়া গেল।

বড়ি আসিয়া সুয়োরাণী বলিল, — “দুয়োরাণী তো জলে ডুবিয়া মরিয়াছে!”

রাজা আহাই বিশ্বাস করিলেন।

রাজপুরীর লক্ষ্মী গেল, রাজপুরী আঁধার হইল; মা-হারা শীত-বসন্তের দুঃখের সীমা রহিল না।

রাজার কম রাণী ?

- (1) দুই
- (2) তিন
- (3) চার
- (4) পাঁচ

Options :

212507113501-1

212507113502-2

212507113503-3

212507113504-4

Question Number : 107 Question Id : 21250719577 Question Type : MCQ Option Shuffling : No Is Question Mandatory : No Calculator : None Response Time : N.A Think Time : N.A Minimum Instruction Time : 0

Correct Marks : 5 Wrong Marks : 1

Question Key Details :

Key	Value
Comprehension	Comp1

অনুচ্ছেদটি পড়ে ও প্রশ্নগুলির উত্তর দাও :

এক রাজার দুই রাণী, সুয়োরাণী আর দুয়োরাণী। সুয়োরাণী যে, নুনটুকু উন হইতেই নখের আখায় আঁচড় কাটিয়া, ঘন-কমায় ভাগ বাঁটিয়া সতীনকে একপাশ করিয়া দেয়। দুঃখে দুয়োরাণীর দিন কাটে।

সুয়োরাণীর ছেলে পিলে হয় না। দুয়োরাণীর দুই ছেলে — শীত আর বসন্ত। আহা, ছেলে নিয়া দুয়োরাণীর যে যজ্ঞা! — রাজার রাজপুত্র, সৎ মায়ের গঞ্জনা খাইতে-খাইতে দিন যায়।

একদিন নদীর ঘাটে হান করিতে গিয়া সুয়োরাণী দুয়োরাণীকে ডাকিয়া বলিল — “আর তো, তোর মাথায় ফার খেঁকা নিয়া দি।” ফার খেঁকা দিতে-দিতে সুয়োরাণী চুপ করিয়া দুয়োরাণীর মাথায় এক শুক্কের বড়ি টিপিয়া দিল। দুঃখিনী দুয়োরাণী টিয়া হইয়া “টি, টি” করিতে-করিতে উড়িয়া গেল।

বড়ি আসিয়া সুয়োরাণী বলিল, — “দুয়োরাণী তো জলে ডুবিয়া মরিয়াছে!”

রাজা আহাই বিশ্বাস করিলেন।

রাজপুরীর লক্ষ্মী গেল, রাজপুরী আঁধার হইল। মা-হারা শীত-বসন্তের দুঃখের সীমা রহিল না।

দুয়োরাণীর ছেলে ক'জন?

- (1) একজন
- (2) দুইজন
- (3) তিনজন
- (4) চারজন

Options :

212507113505-1

212507113506-2

212507113507-3

212507113508-4

Question Number : 105 Question Id : 21250719578 Question Type : MCQ Option Shuffling : No Is Question Mandatory : No Calculator : None Response Time : N.A Think Time : N.A Minimum Instruction Time : 0

Correct Marks : 5 Wrong Marks : 1

Question Key Details :

Key	Value
Comprehension	Comp1

অনুচ্ছেদটি পড়ে ও প্রশ্নগুলির উত্তর দাও :

এক রাজার দুই রাণী, সুয়োরাণী আর দুয়োরাণী। সুয়োরাণী যে, নুনটুকু উন হইতেই নখের আঘায় আঁচড় কাটিয়া, ঘর-কম্বায় ভাগ বাঁটিয়া সতীনকে একপাশ করিয়া দেয়। দুঃখে দুয়োরাণীর দিন কাটে।

সুয়োরাণীর ছেলে-পিলে হয় না। দুয়োরাণীর দুই ছেলে— শীত আর বসন্ত। আহা, ছেলে নিয়া দুয়োরাণীর যে যজ্ঞণা!— রাজার রাজপুত্র, সৎ মায়ের গঞ্জনা খাইতে-খাইতে দিন যায়।

একদিন নদীর ঘাটে হান করিতে গিয়া সুয়োরাণী দুয়োরাণীকে ডাকিয়া বলিল— “আর তো, তোর মাথায় ফার খেঁকা নিয়া দি।” ফার খেঁকা দিতে-দিতে সুয়োরাণী চুপ করিয়া দুয়োরাণীর মাথায় এক শুকুধের বড়ি টিপিয়া দিল। দুঃখিনী দুয়োরাণী টিয়া হইয়া “টি, টি” করিতে-করিতে উড়িয়া গেল।

বড়ি আসিয়া সুয়োরাণী বলিল, — “দুয়োরাণী তো জলে ডুবিয়া মরিয়াছে!”

রাজা আহাই বিশ্বাস করিলেন।

রাজপুরীর লক্ষ্মী গেল, রাজপুরী আঁধার হইল। মা-হারা শীত-বসন্তের দুঃখের সীমা রহিল না।

শীত-বসন্তের সৎ মায়ের নাম—

- (1) দুয়োরাণী
- (2) কাঞ্চনমালা
- (3) চম্পা
- (4) সুয়োরাণী

Options :

212507118309-1

212507118310-2

212507118311-3

212507118312-4

Question Number : 109 Question Id : 21250719579 Question Type : MCQ Option Shuffling : No Is Question Mandatory : No Calculator : None Response Time : N.A Think Time : N.A Minimum Instruction Time : 0

Correct Marks : 5 Wrong Marks : 1

Question Key Details :

Key	Value
Comprehension	Comp1



অনুচ্ছেদটি পড়ে ও প্রশ্নগুলির উত্তর দাও :

এক রাজার দুই রাণী, সুয়োরাণী আর দুয়োরাণী। সুয়োরাণী যে, নুনটুকু উন হইতেই নখের আধায় আঁচড় কাটিয়া, ঘর-কমায় ভাগ বাঁটিয়া সতীনকে একপাশ করিয়া দেয়। দুঃখে দুয়োরাণীর দিন কাটে।

সুয়োরাণীর ছেলে-পিলে হয় না। দুয়োরাণীর দুই ছেলে— শীত আর বসন্ত। আহা, ছেলে নিয়া দুয়োরাণীর যে যজ্ঞণা!— রাজার রাজপুত্র, সৎ মায়ের গঞ্জনা খাইতে-খাইতে দিন যায়।

একদিন নদীর ঘাটে হান করিতে গিয়া সুয়োরাণী দুয়োরাণীকে ডাকিয়া বলিল— “আয় তো, তোর মাথায় ফার খেলা দিয়া দি।” ফার খেলা দিতে-দিতে সুয়োরাণী চুপ করিয়া দুয়োরাণীর মাথায় এক শুকুধের বড়ি টিপিয়া দিল। দুঃখিনী দুয়োরাণী টিয়া হইয়া “টি, টি” করিতে-করিতে উড়িয়া গেল।

বড়ি আসিয়া সুয়োরাণী বলিল, — “দুয়োরাণী তো জলে ডুবিয়া মরিয়াছে!”

রাজা আহাই বিশ্বাস করিলেন।

রাজপুরীর লক্ষ্মী গেল, রাজপুরী আঁধার হইল; মা-হারা শীত-বসন্তের দুঃখের সীমা রহিল না।

“আয় তো, তোর মাথায় ফার খেলা দিয়া দি।”— এই উক্তিটি হল—

- (1) বসন্ত-এর
- (2) শীত-এর
- (3) সুয়োরাণীর
- (4) দুয়োরাণীর

Options :

212907118313-1

212907118314-2

212907118315-3

212907118316-4

Question Number : 110 Question Id : 21290719560 Question Type : MCQ Option Shuffling : No Is Question Mandatory : No Calculator : None-  
Response Time : N.A Think Time : N.A Minimum Instruction Time : 0

Correct Marks : 5 Wrong Marks : 1

Question Key Details :

Key	Value
Comprehension	Comp1

অনুচ্ছেদটি পড়ে ও প্রশ্নগুলির উত্তর দাও :

এক রাজার দুই রাণী, সুয়োরাণী আর দুয়োরাণী। সুয়োরাণী যে, নুনটুকু উন হইতেই নখের আঘায় আঁচড় কাটিয়া, ঘর-কমায় ভাগ বাঁটিয়া সতীনকে একপাশ করিয়া দেয়। দুঃখে দুয়োরাণীর দিন কাটে।

সুয়োরাণীর ছেলে-পিলে হয় না। দুয়োরাণীর দুই ছেলে— শীত আর বসন্ত। আহা, ছেলে নিয়া দুয়োরাণীর যে যজ্ঞণা!— রাজার রাজপুত্র, সৎ মায়ের গণ্ডনা খাইতে-খাইতে দিন যায়।

একদিন নদীর ঘাটে হান করিতে গিয়া সুয়োরাণী দুয়োরাণীকে ডাকিয়া বলিল— “আর তো, তোর মাথায় ক্ষর খেঁকা নিয়া দি।” ক্ষর খেঁকা দিতে-দিতে সুয়োরাণী চুপ করিয়া দুয়োরাণীর মাথায় এক শুবুধের বড়ি টিপিয়া দিল। দুঃখিনী দুয়োরাণী টিয়া হইয়া “টি, টি” করিতে-করিতে উড়িয়া গেল।

বড়ি আসিয়া সুয়োরাণী বলিল, — “দুয়োরাণী তো জলে ডুবিয়া মরিয়াছে।”

রাজা আহাই বিশ্বাস করিলেন।

রাজপুরীর লক্ষ্মী গেল, রাজপুরী আঁধার হইল; মা-হারা শীত-বসন্তের দুঃখের সীমা রহিল না।

দুয়োরাণী কোন্ পাবিতে পরিণত হইতছিল ?

- (1) শুকপাখি
- (2) সারি
- (3) টিয়া
- (4) ময়না

Options :

212807118317-1

212807118318-2

212807118319-3

212807118320-4

Sub-Section Number :

3

Sub-Section Id :

2128072151

Question Shuffling Allowed :

No

Is Section Default? :

nil

Question Number : 111 Question Id : 11280719581 Question Type : MCQ Option Shuffling : No Is Question Mandatory : No Calculator : None  
Response Time : N/A Think Time : N/A Minimum Instruction Time : 0

Correct Marks : 5 Wrong Marks : 1

Question Key Details :

Key	Value
Comprehension	Contp3

অনুচ্ছেদটি পড়ো ও প্রশ্নগুলির উত্তর দাও :

সুমেবীয়, কাশ্মীরী, ইজিপ্টীয় ও মিশরীয় জাতির সভ্যতার উপরও ব্রহ্মবিড়-সভ্যতার প্রভাব ছিল বলিয়া মনে হয়। ব্রহ্মবিড় জাতি নৌবিদ্যায় পারদর্শী ছিল। ব্রহ্মবিড় ভাষায় তাহার পরিচয় রহিয়াছে। সংস্কৃত নৌ-সম্বন্ধীয় শব্দাবলী ব্রহ্মবিড় ভাষা হইতেই গৃহীত। এই ব্রহ্মবিড় জাতি যে বাহির হইতে ভারতে আসিয়াছিল এক্ষণে কোন প্রমাণও নাই। অতি প্রাচীনকালে যে ভারতবর্ষ ও মেসোপটেমিয়ায় যোগাযোগ ছিল ২১০০ খ্রী-পূঃ-র একখানি ফলক ও অন্যান্য নিদর্শন হইতেই তাহা প্রমাণিত হয়। কয়েক বৎসর হইল প্রত্নানুসন্ধান বৈদিক দেবতাদের মধ্যে ছত্রাজনকে দেখিতে পাওয়া গিয়াছে ভারতের বাহিরে অতিদূর দেশে। ইন্দ্র, মিত্র, বরশ, নাসত্য, সূর্য ও মরুৎ— এই ছত্রাজন দেবতার উল্লেখ আছে বেগাস-কুই শিলালেখ, তেব-এল-অমেরনার পত্রাবলীতে এবং ব্যাবিলনের 'আসাইটদের রেকর্ডসে' মিতানি রাজ্যের সহিত আসিরীয় রাজ্যের যে বৃহৎ বাণিজ্য তাহা ইতিহাস প্রসিদ্ধ। Tel-el-Amarna হইতে Tusratta যে পত্রগুলি মিশরের তৃতীয় Amenhotopকে লিখিয়াছিলেন সেগুলি সম্প্রতি আবিষ্কৃত হইয়াছে। এগুলির সময় Boghas Kui লিপির সময়ের অনুরূপ। এই পত্রগুলিতে উত্তর পশ্চিম মেসোপটেমিয়ায় মিতানি জাতির উল্লেখ আছে।

ব্রহ্মবিড় জাতি কোন বিদ্যায় পারদর্শী ছিল?

- (1) যুদ্ধবিদ্যায়
- (2) নৌবিদ্যায়
- (3) অস্ত্রবিদ্যায়
- (4) হস্তীবিদ্যায়

Options :

- 212807118321-1  
212807118322-2  
212807118323-3  
212807118324-4

Question Number : 112 Question Id : 21180729532 Question Type : MCQ Option Shuffling : No Is Question Mandatory : No Calculator : None  
Response Time : N/A Think Time : N/A Minimum Instruction Time : 0

Correct Marks : 5 Wrong Marks : 1

Question Key Details :

Key	Value
Comprehension	Comp3

অনুচ্ছেদটি পড়ো ও প্রশ্নগুলির উত্তর দাও :

সুমেৰীয়, কাশ্চীয়, ইজীয় ও মিশরীয় জাতির সভ্যতার উপরও দ্রবিড়-সভ্যতার প্রভাব ছিল বলিয়া মনে হয়। দ্রবিড় জাতি নৌবিন্যাস পারদর্শী ছিল। দ্রবিড় ভাষায় তাহার পরিচয় রহিয়াছে। সংস্কৃত নৌ সম্বন্ধীয় শব্দাবলী দ্রবিড় ভাষা হইতেই গৃহীত। এই দ্রবিড় জাতি যে বাহির হইতে ভারতে আসিয়াছিল এক্ষণ কোন প্রমাণও নাই। অতি প্রাচীনকালে যে ভারতবর্ষ ও মেসোপটেমিয়ায় যোগাযোগ ছিল ২১০০ খ্রী-পূঃ-র একখানি ফলক ও অন্যান্য নিদর্শন হইতেই তাহা প্রমাণিত হয়। কয়েক বৎসর হইল প্রত্নানুসন্ধান বৈদিক দেবতাদের মধ্যে ছত্রাজনকে দেখিতে পাওয়া গিয়াছে ভারতের বাহিরে অতিদূর দেশে। ইন্দ্র, মিত্র, বরশ, নাসত্য, সূর্য ও মরুৎ— এই ছত্রাজন দেবতার উল্লেখ আছে বেগাস-কুই শিলালেখ, তেব-এল-অমরনার পত্রাবলীতে এবং ব্যাবিলনের 'আসাইটদের রেকর্ডসে' মিতানি রাজ্যের সহিত আসিরীয় রাজ্যের যে বৃহৎ বাণিজ্য তাহা ইতিহাস প্রসিদ্ধ। Tel-el-Amarna হইতে Tusratta যে পত্রগুলি মিশরের তৃতীয় Amenhotopকে লিখিয়াছিলেন সেগুলি সম্প্রতি আবিষ্কৃত হইয়াছে। এগুলির সময় Boghas Kui লিপির সময়ের অনুরূপ। এই পত্রগুলিতে উত্তর পশ্চিম মেসোপটেমিয়ার মিতানি জাতির উল্লেখ আছে।

Tusratta-কাকে উদ্দেশ্য করে পত্রগুলি লিখিয়াছিলেন ?

- (1) দ্রবিড়দের
- (2) H. H. Risley-কে
- (3) Amenhotop-কে
- (4) আলেকজান্ডারকে

Options :

- 212807118325-1
- 212807118326-2
- 212807118327-3
- 212807118328-4

Question Number : 113 Question Id : 21130729533 Question Type : MCQ Option Shuffling : No Is Question Mandatory : No Calculator : None  
Response Time : N/A Think Time : N/A Minimum Instruction Time : 0

Correct Marks : 5 Wrong Marks : 1

Question Key Details :

Key	Value
Comprehension	Comp3

অনুচ্ছেদটি পড়ো ও প্রশ্নগুলির উত্তর দাও :

সুমেবীয়, কাস্‌ডীয়, ইজীয় ও মিশরীয় জাতির সভ্যতার উপরও ব্রবিড়-সভ্যতার প্রভাব ছিল বলিয়া মনে হয়। ব্রবিড় জাতি নৌবিদ্যায় পারদর্শী ছিল। ব্রবিড় ভাষায় তাহার পরিচয় রহিয়াছে। সংস্কৃত নৌ সম্বন্ধীয় শব্দাবলী ব্রবিড় ভাষা হইতেই গৃহীত। এই ব্রবিড় জাতি যে বাহির হইতে ভারতে আসিয়াছিল এরূপ কোন প্রমাণও নাই। অতি প্রাচীনকালে যে ভারতবর্ষ ও মেসোপটেমিয়ায় যোগাযোগ ছিল ২১০০ খ্রী-পূঃ-র একখানি ফলক ও অন্যান্য নিদর্শন হইতেই তাহা প্রমাণিত হয়। কয়েক বৎসর হইল প্রত্নানুসন্ধান বৈদিক দেবতাদের মধ্যে ছত্রাজনকে দেখিতে পাওয়া গিয়াছে ভারতের বাহিরে অতিদূর দেশে। ইন্দ্র, মিত্র, বরশ, নাসত্য, সূর্য ও মরুৎ— এই ছত্রাজন দেবতার উল্লেখ আছে বেগাস-কুই শিলালেখ, তেব-এল-অমরনার পত্রাবলীতে এবং ব্যাবিলনের 'কাসাইটদের রেকর্ডসে' মিতানি রাজ্যের সহিত আসিরীয় রাজ্যের যে বৃহৎ বাণিজ্য তাহা ইতিহাস প্রসিদ্ধ। Tel-el-Amarna হইতে Tusratta যে পত্রগুলি মিশরের তৃতীয় Amenhotopকে লিখিয়াছিলেন সেগুলি সম্প্রতি আবিষ্কৃত হইয়াছে। এগুলির সময় Boghas Kui লিপির সময়ের অনুরূপ। এই পত্রগুলিতে উত্তর পশ্চিম মেসোপটেমিয়ার মিতানি জাতির উল্লেখ আছে।

সংস্কৃত 'নৌ' শব্দটি কোন ভাষা থেকে গৃহীত ?

- (1) অস্টিয়
- (2) ব্রবিড়
- (3) ভেটটানী
- (4) মঙ্গোলীয়

Options :

- 212807118329-1  
212807118330-2  
212807118331-3  
212807118332-4

Question Number : 114 Question Id : 21180729584 Question Type : MCQ Option Shuffling : No Is Question Mandatory : No Calculator : None  
Response Time : N/A Think Time : N/A Minimum Instruction Time : 0

Correct Marks : 5 Wrong Marks : 1

Question Key Details :

Key	Value
Comprehension	Comp3

অনুচ্ছেদটি পড়ো ও প্রশ্নগুলির উত্তর দাও :

সুমেবীয়, কাশ্চীয়, ইজীয় ও মিশরীয় জাতির সভ্যতার উপরও ব্রবিড়-সভ্যতার প্রভাব ছিল বলিয়া মনে হয়। ব্রবিড় জাতি নৌবিদ্যায় পারদর্শী ছিল। ব্রবিড় ভাষায় তাহার পরিচয় রহিয়াছে। সংস্কৃত নৌ-সম্বন্ধীয় শব্দাবলী ব্রবিড় ভাষা হইতেই গৃহীত। এই ব্রবিড় জাতি যে বাহির হইতে ভারতে আসিয়াছিল এক্ষণে কোন প্রমাণও নাই। অতি প্রাচীনকালে যে ভারতবর্ষ ও মেসোপটেমিয়ায় যোগাযোগ ছিল ২১০০ খ্রী-পূঃ-র একখানি ফলক ও অন্যান্য নিদর্শন হইতেই তাহা প্রমাণিত হয়। কয়েক বৎসর হইল প্রত্নানুসন্ধানে বৈদিক দেবতাদের মধ্যে ছত্রজনকে দেখিতে পাওয়া গিয়াছে ভারতের বাহিরে অতিদূর দেশে। ইন্দ্র, মিত্র, বরশ, নাসত্য, সূর্য ও মরুৎ— এই ছত্রজন দেবতার উল্লেখ আছে বেগাস-কুই শিলালেখ, তেব-এল-অমেরনার পত্রাবলীতে এবং ব্যাবিলনের 'আসাইটদের রেকর্ডসে' মিতানি রাজ্যের সহিত আসিরীয় রাজ্যের যে বৃহৎ বাণিজ্য তাহা ইতিহাস প্রসিদ্ধ। Tel-el-Amarna হইতে Tusratta যে পত্রগুলি মিশরের তৃতীয় Amenhotopকে লিখিয়াছিলেন সেগুলি সম্প্রতি আবিষ্কৃত হইয়াছে। এগুলির সময় Boghas Kui লিপির সময়ের অনুরূপ। এই পত্রগুলিতে উত্তর পশ্চিম মেসোপটেমিয়ার মিতানি জাতির উল্লেখ আছে।

এই অনুচ্ছেদে কতজন দেবতার উল্লেখ রয়েছে ?

- (1) ১২ জন
- (2) ২ জন
- (3) ৮ জন
- (4) ৬ জন

Options :

- 212807118333-1  
212807118334-2  
212807118335-3  
212807118336-4

Question Number : 115 Question Id : 21180729585 Question Type : MCQ Option Shuffling : No Is Question Mandatory : No Calculator : None  
Response Time : N/A Think Time : N/A Minimum Instruction Time : 0

Correct Marks : 5 Wrong Marks : 1

Question Key Details :

Key	Value
Comprehension	Comp3

অনুচ্ছেদটি পড়ো ও প্রশ্নগুলির উত্তর দাও :

সুমেরীয়, কাল্ডীয়, ইজীয় ও মিশরীয় জাতির সভ্যতার উপরও ব্রহিড়-সভ্যতার প্রভাব ছিল বলিয়া মনে হয়। ব্রহিড় জাতি নৌবিন্যায় পারদর্শী ছিল। ব্রহিড় ভাষায় তাহার পরিচয় রহিয়াছে। সংস্কৃত নৌ-সম্বন্ধীয় শব্দাবলী ব্রহিড় ভাষা হইতেই গৃহীত। এই ব্রহিড় জাতি যে বাহির হইতে ভারতে আসিয়াছিল একথা কোন প্রমাণও নাই। অতি প্রাচীনকালে যে ভারতবর্ষ ও মেসোপটেমিয়ার যোগাযোগ ছিল ২১০০ খ্রী-পূঃ-র একখানি ফলক ও অন্যান্য নিদর্শন হইতেই তাহা প্রমাণিত হয়। কয়েক বৎসর হইল প্রত্নানুসন্ধান বৈদিক দেবতাদের মধ্যে ছয়জনকে দেখিতে পাওয়া গিয়াছে ভারতের বাহিরে অতিদূর দেশে। ইন্দ্র, মিত্র, বরুণ, নাসতা, সূর্য ও মরুৎ— এই ছয়জন দেবতার উল্লেখ আছে বোগাস কুই শিলালেখ, তেঙ্ক-এল-অমরনার পত্রাবলীতে এবং ব্যাবিলনের কাসাইটদের রেকর্ডসে। মিতানি রাজ্যের সহিত আসিরীয় রাজ্যের যে বুদ্ধ ব্যপার তাহা ইতিহাস প্রসিদ্ধ। Tel-el-Amarna হইতে Tusratta যে পত্রগুলি মিশরের তৃতীয় Amenhotopকে লিখিয়াছিলেন সেগুলি সম্প্রতি আবিষ্কৃত হইয়াছে। এগুলির সময় Boghas Kui লিপির সময়ের অনুরূপ। এই পত্রগুলিতে উত্তর পশ্চিম মেসোপটেমিয়ার মিতানি জাতির উল্লেখ আছে।

ইন্দ্র, মিত্র, বরুণ, নাসতা, সূর্য ও মরুৎ— এই ছয়জন দেবতার উল্লেখ ব্যাবিলনের কোন রেকর্ডস-এ রয়েছে ?

- (1) বোগাস কুই
- (2) তেঙ্ক-এল-অমরনা
- (3) কাসাইটদের রেকর্ডসে
- (4) শূন্য উদ্যানে

Options :

- 212807118337-1
- 212807118338-2
- 212807118339-3
- 212807118340-4

Sub-Section Number :

4

Sub-Section Id :

2128072152

Question Shuffling Allowed :

Yes

Is Section Default? :

null

Question Number : 116 Question Id : 21280719536 Question Type : MCQ Option Shuffling : No Is Question Mandatory : No Calculator : None  
Response Time : N.A Think Time : N.A Minimum Instruction Time : 0

Correct Marks : 5 Wrong Marks : 1

Question Key Details :

Key	Value
Comprehension	MCQ

বাংলা মৌলিক শব্দের ভাগ —

- (1) ২ টি
- (2) ৩ টি
- (3) ৪ টি
- (4) ৫ টি

Options :

- 212807118141-1
- 212807118142-2
- 212807118143-3
- 212807118144-4

Question Number : 117 Question Id : 21280719537 Question Type : MCQ Option Shuffling : No Is Question Mandatory : No Calculator : None  
Response Time : N.A Think Time : N.A Minimum Instruction Time : 0

Correct Marks : 5 Wrong Marks : 1

Question Key Details :

Key	Value
Comprehension	MCQ

সংস্কৃত থেকে বাংলার সমাসটি গৃহীত শব্দারাদিকে বলা হয় :

- (1) তৎসম শব্দ
- (2) তদ্ভব শব্দ
- (3) অর্ধ-তৎসম শব্দ
- (4) মুগ্ধমাল শব্দ

Options :

- 112807118145: 1  
112807118146: 2  
112807118147: 3  
112807118148: 4

Question Number : 118 Question Id : 11280729535 Question Type : MCQ Option Shuffling : No Is Question Mandatory : No Calculator : None  
Response Time : N.A Think Time : N.A Minimum Instruction Time : 0

Correct Marks : 5 Wrong Marks : 1

Question Key Details :

Key	Value
Comprehension	MCQ

বাচন-লিঙ্গ-বিভক্তিতে যে সমস্ত পদের ব্যয় বা পরিবর্তন হয় না সেই সমস্ত পদকে বলা হয়—

- (1) সর্বনাম
- (2) বিশেষণ
- (3) ক্রিয়া
- (4) অধায়া

Options :

- 112807118149: 1  
112807118150: 2  
112807118151: 3  
112807118152: 4

Question Number : 119 Question Id : 11280729539 Question Type : MCQ Option Shuffling : No Is Question Mandatory : No Calculator : None  
Response Time : N.A Think Time : N.A Minimum Instruction Time : 0

Correct Marks : 5 Wrong Marks : 1

Question Key Details :

Key	Value
Comprehension	MCQ



তালিকা I এর সঙ্গে তালিকা II মেলাও : তালিকা

তালিকা I

তালিকা II

- |              |              |
|--------------|--------------|
| (A) গ্রাম    | (I) সর্বনাম  |
| (B) তিনি     | (II) অবয়ব   |
| (C) শক্তিমান | (III) বিশেষণ |
| (D) এবং      | (IV) বিশেষ্য |

নিম্ন প্রদত্ত বিকল্পগুলি থেকে সঠিক উত্তরটি বেছে নাও :

- (1) (A)-(I), (B)-(III), (C)-(II), (D)-(IV)
- (2) (A)-(IV), (B)-(I), (C)-(III), (D)-(II)
- (3) (A)-(II), (B)-(IV), (C)-(I), (D)-(III)
- (4) (A)-(IV), (B)-(III), (C)-(II), (D)-(I)

Options :

212807118153 1

212807118154 2

212807118155 3

212807118156 4

Question Number : 120 Question Id : 21280729540 Question Type : MCQ Option Shuffling : No Is Question Mandatory : No Calculator : None  
Response Time : N.A Think Time : N.A Minimum Instruction Time : 0

Correct Marks : 5 Wrong Marks : 1

Question Key Details :

Key	Value
Comprehension	MCQ

ভিক্ষুককে ভিক্ষা নাও। কোন কারকের উদাহরণ ?

- (1) কর্ম কারক
- (2) করণ কারক
- (3) সম্প্রদান কারক
- (4) অপাদন কারক

Options :

212807118157 1

212807118158 2

212807118159 3

212807118160 4

Question Number : 121 Question Id : 21280729541 Question Type : MCQ Option Shuffling : No Is Question Mandatory : No Calculator : None  
Response Time : N.A Think Time : N.A Minimum Instruction Time : 0

Correct Marks : 5 Wrong Marks : 1

Question Key Details :

Key	Value
Comprehension	MCQ

- (A) 'এবাং' একটি সংযোজক অব্যয়  
 (B) বাংলায় কারক তিন প্রকার  
 (C) তোমার খাওয়া হয়েছে। কর্তৃবাচ্যের উদাহরণ  
 (D) 'ভগবান' শব্দটি বিশেষণের উদাহরণ  
 (E) সমাস দুই প্রকার

নিম্ন প্রদত্ত বিকল্পগুলি থেকে সঠিক উত্তরটি বেছে নিন :

- (1) শুধুমাত্র (A) এবং (B)  
 (2) শুধুমাত্র (B) এবং (E)  
 (3) শুধুমাত্র (A) এবং (D)  
 (4) শুধুমাত্র (A) এবং (C)

Options :

- 212807113161 1  
 212807113162 2  
 212807113163 3  
 212807113164 4

Question Number : 122 Question Id : 21280729542 Question Type : MCQ Option Shuffling : No Is Question Mandatory : No Calculator : None  
 Response Time : N.A Think Time : N.A Minimum Instruction Time : 0

Correct Marks : 5 Wrong Marks : 1

Question Key Details :

Key	Value
Comprehension	MCQ

তালিকা I এর সঙ্গে তালিকা II মেলাও :

তালিকা I

তালিকা II

- |                 |                                |
|-----------------|--------------------------------|
| (A) রাম-কান্দুণ | (I) বস্ত্রীহি সমাস             |
| (B) সিংহাসন     | (II) দ্বন্দ্ব সমাস             |
| (C) দশানন       | (III) দ্বিগু সমাস              |
| (D) পঞ্চবটী     | (IV) মন্যপদলোপী কর্মধারয় সমাস |

নিম্ন প্রদত্ত বিকল্পগুলি থেকে সঠিক উত্তরটি বেছে নিন :

- (1) (A)-(II), (B)-(I), (C)-(IV), (D)-(III)  
 (2) (A)-(II), (B)-(IV), (C)-(I), (D)-(III)  
 (3) (A)-(I), (B)-(III), (C)-(II), (D)-(IV)  
 (4) (A)-(IV), (B)-(I), (C)-(III), (D)-(II)

Options :

- 212807113163 1  
 212807113164 2  
 212807113165 3  
 212807113166 4

Question Number : 123 Question Id : 21280729543 Question Type : MCQ Option Shuffling : No Is Question Mandatory : No Calculator : None  
 Response Time : N.A Think Time : N.A Minimum Instruction Time : 0

Correct Marks : 5 Wrong Marks : 1

Question Key Details :

Key	Value
Comprehension	MCQ

‘মশা ও মছি = মশামছি’ — এটি কোন সমাসের উদাহরণ?

- (1) তৎপুরুষ সমাস
- (2) দ্বন্দ্ব সমাস
- (3) কর্মধারয় সমাস
- (4) বহুব্রীহি সমাস

Options :

- 112807119169 1
- 112807119170 2
- 112807119171 3
- 112807119172 4

Question Number : 124 Question Id : 21280729544 Question Type : MCQ Option Shuffling : No Is Question Mandatory : No Calculator : None

Response Time : N.A Think Time : N.A Minimum Instruction Time : 0

Correct Marks : 5 Wrong Marks : 1

Question Key Details :

Key	Value
Comprehension	MCQ

‘কথাজ্বলে’ — এর সন্ধি বিশ্লেষণ —

- (1) কথা + জ্বলে
- (2) কথার + জ্বলে
- (3) কথা + জ্বলে
- (4) কথাচ + জ্বলে

Options :

- 112807118173 1
- 112807118174 2
- 112807118175 3
- 112807118176 4

Question Number : 125 Question Id : 21280729545 Question Type : MCQ Option Shuffling : No Is Question Mandatory : No Calculator : None

Response Time : N.A Think Time : N.A Minimum Instruction Time : 0

Correct Marks : 5 Wrong Marks : 1

Question Key Details :

Key	Value
Comprehension	MCQ

স্বরসন্ধি হয় —

- (1) পরকানি ও ব্যঞ্জন কানির মিলনে
- (2) ব্যঞ্জন কানি ও স্বরকানি মিলনে
- (3) পরকানি ও স্বরকানির মিলনে
- (4) পদ ও বিভক্তির মিলনে

Options :

- 112807119177 1
- 112807119178 2
- 112807119179 3
- 112807119180 4

Question Number : 126 Question Id : 21280729546 Question Type : MCQ Option Shuffling : No Is Question Mandatory : No Calculator : None

Response Time : N.A Think Time : N.A Minimum Instruction Time : 0

Correct Marks : 5 Wrong Marks : 1

## Question Key Details :

Key	Value
Comprehension	MCQ

তালিকা I এর সঙ্গে তালিকা II মেলাও :

তালিকা I

তালিকা II

- |           |              |
|-----------|--------------|
| (A) রু    | (I) বিবি     |
| (B) সাহেব | (II) সাদি    |
| (C) গুফ   | (III) জেলেনি |
| (D) জেলো  | (IV) কনে     |

নিম্ন প্রদত্ত বিকল্পগুলি থেকে সঠিক উত্তরটি বেছে নাও :

- (1) (A)-(II), (B)-(I), (C)-(IV), (D)-(III)
- (2) (A)-(III), (B)-(II), (C)-(I), (D)-(IV)
- (3) (A)-(IV), (B)-(I), (C)-(II), (D)-(III)
- (4) (A)-(I), (B)-(IV), (C)-(III), (D)-(II)

Options :

- 212807118181 1  
212807118182 2  
212807118183 3  
212807118184 4

Question Number : 127 Question Id : 21280729547 Question Type : MCQ Option Shuffling : No Is Question Mandatory : No Calculator : None  
Response Time : N.A Think Time : N.A Minimum Instruction Time : 0

Correct Marks : 5 Wrong Marks : 1

Question Key Details :

Key	Value
Comprehension	MCQ

তালিকা I এর সঙ্গে তালিকা II মেলাও :

তালিকা I

তালিকা II

- |          |               |
|----------|---------------|
| (A) একজন | (I) তাহারা    |
| (B) তুমি | (II) বহুজন    |
| (C) জেলো | (III) তোমরা   |
| (D) সে   | (IV) জেলেগুলি |

নিম্ন প্রদত্ত বিকল্পগুলি থেকে সঠিক উত্তরটি বেছে নাও :

- (1) (A)-(II), (B)-(III), (C)-(IV), (D)-(I)
- (2) (A)-(II), (B)-(IV), (C)-(I), (D)-(III)
- (3) (A)-(III), (B)-(I), (C)-(II), (D)-(IV)
- (4) (A)-(I), (B)-(IV), (C)-(III), (D)-(II)

Options :

- 212807118185 1  
212807118186 2  
212807118187 3  
212807118188 4

Question Number : 128 Question Id : 21280729548 Question Type : MCQ Option Shuffling : No Is Question Mandatory : No Calculator : None  
Response Time : N.A Think Time : N.A Minimum Instruction Time : 0

Correct Marks : 5 Wrong Marks : 1

Question Key Details :

Key	Value
Comprehension	MCQ

শব্দের আগে বসে অব্যাসূচক বাক্যাংশকে বলে —

- (1) প্রত্যয়
- (2) অব্যয়
- (3) পদ
- (4) উপসর্গ

Options :

212807118189 1  
212807118190 2  
212807118191 3  
212807118192 4

Question Number : 129 Question Id : 21280729549 Question Type : MCQ Option Shuffling : No Is Question Mandatory : No Calculator : None  
Response Time : N.A Think Time : N.A Minimum Instruction Time : 0

Correct Marks : 5 Wrong Marks : 1

Question Key Details :

Key	Value
Comprehension	MCQ

বাল্যের উপসর্গ —

- (1) দুই প্রকার
- (2) তিন প্রকার
- (3) পাঁচ প্রকার
- (4) সাত প্রকার

Options :

212807118193 1  
212807118194 2  
212807118195 3  
212807118196 4

Question Number : 130 Question Id : 21280729550 Question Type : MCQ Option Shuffling : No Is Question Mandatory : No Calculator : None  
Response Time : N.A Think Time : N.A Minimum Instruction Time : 0

Correct Marks : 5 Wrong Marks : 1

Question Key Details :

Key	Value
Comprehension	MCQ

বাচ্য হলো —

- (1) বাক্যের অর্থ
- (2) বাক্যের ভাব
- (3) বাক্যের প্রয়োগ
- (4) বাক্যের প্রকাশভঙ্গি

Options :

212807118197 1  
212807118198 2  
212807118199 3  
212807118200 4

Question Number : 131 Question Id : 21280719551 Question Type : MCQ Option Shuffling : No Is Question Mandatory : No Calculator : None  
Response Time : N.A Think Time : N.A Minimum Instruction Time : 0

Correct Marks : 5 Wrong Marks : 1

Question Key Details :

Key	Value
Comprehension	MCQ

বান্দ্য বাচা—

- (1) এক প্রকার
- (2) দুই প্রকার
- (3) তিন প্রকার
- (4) চার প্রকার

Options :

21280719551 1  
21280719552 2  
21280719553 3  
21280719554 4

Question Number : 132 Question Id : 21280719552 Question Type : MCQ Option Shuffling : No Is Question Mandatory : No Calculator : None  
Response Time : N.A Think Time : N.A Minimum Instruction Time : 0

Correct Marks : 5 Wrong Marks : 1

Question Key Details :

Key	Value
Comprehension	MCQ

“এব্যাবিনী শোককুলে অশোক কামনে।

কীদে রাখব বাহু আঁধার কুটীরে।”

ছন্দ নির্ণয় করো।

- (1) তানপ্রধান ছন্দ
- (2) অমিত্রাক্ষর ছন্দ
- (3) স্বাসাঘাত প্রধান ছন্দ
- (4) ষপনি প্রধান ছন্দ

Options :

21280719555 1  
21280719556 2  
21280719557 3  
21280719558 4

Question Number : 133 Question Id : 21280719553 Question Type : MCQ Option Shuffling : No Is Question Mandatory : No Calculator : None  
Response Time : N.A Think Time : N.A Minimum Instruction Time : 0

Correct Marks : 5 Wrong Marks : 1

Question Key Details :

Key	Value
Comprehension	MCQ

কোন অলংকারে উপমানকে নিষিদ্ধ করে উপমেয়াকে প্রতিষ্ঠা করা হয় ?

- (1) দুষ্টান্ত অলংকারে
- (2) নিশ্চয় অলংকারে
- (3) সমাসোক্তি অলংকারে
- (4) বিভাকনা অলংকারে

Options :

- 112807118209 1  
112807118210 2  
112807118211 3  
112807118212 4

Question Number : 134 Question Id : 21280729554 Question Type : MCQ Option Shuffling : No Is Question Mandatory : No Calculator : None

Response Time : N.A Think Time : N.A Minimum Instruction Time : 0

Correct Marks : 5 Wrong Marks : 1

Question Key Details :

Key	Value
Comprehension	MCQ

কার্য ও কারণের মধ্যে বৈষম্য দেখা দিলে হয় —

- (1) বিধম অলংকার
- (2) দ্রভাবোক্তি অলংকার
- (3) বিভাকনা অলংকার
- (4) বিশেষোক্তি অলংকার

Options :

- 112807118213 1  
112807118214 2  
112807118215 3  
112807118216 4

Question Number : 135 Question Id : 21280729555 Question Type : MCQ Option Shuffling : No Is Question Mandatory : No Calculator : None

Response Time : N.A Think Time : N.A Minimum Instruction Time : 0

Correct Marks : 5 Wrong Marks : 1

Question Key Details :

Key	Value
Comprehension	MCQ

নীচের কোনগুলি উপভাষাগত উচ্চারণ প্রকৃতি —

- (1) লৌকা, দুফ
- (2) পাগল, গোপাল
- (3) অতুল, মধু
- (4) ঘর, জানালা

Options :

- 112807118217 1  
112807118218 2  
112807118219 3  
112807118220 4

Question Number : 136 Question Id : 21280729556 Question Type : MCQ Option Shuffling : No Is Question Mandatory : No Calculator : None

Response Time : N.A Think Time : N.A Minimum Instruction Time : 0

Correct Marks : 5 Wrong Marks : 1

Question Key Details :

Key	Value
Comprehension	MCQ

বাংলা ভাষায় সর্বমোট বর্ণের সংখ্যা —

- (1) ২২ টি
- (2) ২৫ টি
- (3) ৪২ টি
- (4) ৫০ টি

Options :

212807118221 1  
212807118222 2  
212807118223 3  
212807118224 4

Question Number : 137 Question Id : 21280719457 Question Type : MCQ Option Shuffling : No Is Question Mandatory : No Calculator : None  
Response Time : N.A Think Time : N.A Minimum Instruction Time : 0

Correct Marks : 5 Wrong Marks : 1

Question Key Details :

Key	Value
Comprehension	MCQ

বাংলায় স্বরবর্ণ—

- (1) ৯ টি
- (2) ১০ টি
- (3) ১১ টি
- (4) ১৮ টি

Options :

212807118225 1  
212807118226 2  
212807118227 3  
212807118228 4

Question Number : 138 Question Id : 21280719458 Question Type : MCQ Option Shuffling : No Is Question Mandatory : No Calculator : None  
Response Time : N.A Think Time : N.A Minimum Instruction Time : 0

Correct Marks : 5 Wrong Marks : 1

Question Key Details :

Key	Value
Comprehension	MCQ



- (A) সূক্ষ্ম - শুদ্ধ বানান  
 (B) প্রসারিতা - শুদ্ধ বানান  
 (C) বিদ্বান - শুদ্ধ বানান  
 (D) উজ্জ্বল - শুদ্ধ বানান  
 (E) শস্য - শুদ্ধ বানান

নিম্ন প্রদত্ত বিকল্পগুলি থেকে সঠিক উত্তরটি বেছে নাও :

- (1) শুধুমাত্র (A), (C) এবং (E)  
 (2) শুধুমাত্র (B), (D) এবং (E)  
 (3) শুধুমাত্র (A), (B) এবং (E)  
 (4) শুধুমাত্র (B), (C) এবং (E)

Options :

- 212807118229 1  
 212807118230 2  
 212807118231 3  
 212807118232 4

Question Number : 139 Question Id : 21280729559 Question Type : MCQ Option Shuffling : No Is Question Mandatory : No Calculator : None  
 Response Time : N.A Think Time : N.A Minimum Instruction Time : 0

Correct Marks : 5 Wrong Marks : 1

Question Key Details :

Key	Value
Comprehension	MCQ

অশুদ্ধ বানানগুলি বেছে নাও :

- (1) বার্ধ, তাজা, বিদ্যাল  
 (2) যদ্যপি, লক্ষ্মী, অত্যন্ত  
 (3) মহল্ল, উজ্জ্বল, সাধনা  
 (4) তিরস্কার, পরিষ্কার, ভস্ম

Options :

- 212807118233 1  
 212807118234 2  
 212807118235 3  
 212807118236 4

Question Number : 140 Question Id : 21280729560 Question Type : MCQ Option Shuffling : No Is Question Mandatory : No Calculator : None  
 Response Time : N.A Think Time : N.A Minimum Instruction Time : 0

Correct Marks : 5 Wrong Marks : 1

Question Key Details :

Key	Value
Comprehension	MCQ

'নরক' এর বিপরীত শব্দ —

- (1) বসাতল  
 (2) স্বর্গ  
 (3) পাতাল  
 (4) ধরাতল

Options :

- 212807118227 1
- 212807118238 2
- 212807118239 3
- 212807118240 4

Question Number : 141 Question Id : 21280729561 Question Type : MCQ Option Shuffling : No Is Question Mandatory : No Calculator : None  
Response Time : N.A Think Time : N.A Minimum Instruction Time : 0

Correct Marks : 5 Wrong Marks : 1

Question Key Details :

Key	Value
Comprehension	MCQ

'বন্ধু'-এর বিপরীতার্থক শব্দ হলো —

- (1) বন্ধুর
- (2) বান্ধব
- (3) শত্রু
- (4) মিত্র

Options :

- 212807118241 1
- 212807118242 2
- 212807118243 3
- 212807118244 4

Question Number : 142 Question Id : 21280729562 Question Type : MCQ Option Shuffling : No Is Question Mandatory : No Calculator : None  
Response Time : N.A Think Time : N.A Minimum Instruction Time : 0

Correct Marks : 5 Wrong Marks : 1

Question Key Details :

Key	Value
Comprehension	MCQ

'পর্বত' এর সমার্থক শব্দ —

- (A) উদক
- (B) পাহাড়
- (C) পত্রী
- (D) গিরি
- (E) পঙ্কজ

নিম্ন প্রদত্ত বিকল্পগুলি থেকে সঠিক উত্তরটি বেছে নিন :

- (1) শুধুমাত্র (A) এবং (C)
- (2) শুধুমাত্র (B) এবং (D)
- (3) শুধুমাত্র (C) এবং (E)
- (4) শুধুমাত্র (B) এবং (D)

Options :

- 212807118245 1
- 212807118246 2
- 212807118247 3
- 212807118248 4

Question Number : 143 Question Id : 21280729563 Question Type : MCQ Option Shuffling : No Is Question Mandatory : No Calculator : None  
Response Time : N.A Think Time : N.A Minimum Instruction Time : 0

Correct Marks : 5 Wrong Marks : 1

Question Key Details :

Key	Value
Comprehension	MCQ

সূর্যের দুটি সমার্থক শব্দ —

- (A) দিবাকর
- (B) ভানু
- (C) জলধর
- (D) শশধর
- (E) আধার

নিম্ন প্রদত্ত বিকল্পগুলি থেকে সঠিক উত্তরটি বেছে নিন :

- (1) শুধুমাত্র (A) এবং (B)
- (2) শুধুমাত্র (A) এবং (C)
- (3) শুধুমাত্র (B) এবং (D)
- (4) শুধুমাত্র (C) এবং (D)

Options :

- 212807118249 1
- 212807118250 2
- 212807118251 3
- 212807118252 4

Question Number : 144 Question Id : 21280719564 Question Type : MCQ Option Shuffling : No Is Question Mandatory : No Calculator : None  
Response Time : N.A Think Time : N.A Minimum Instruction Time : 0

Correct Marks : 5 Wrong Marks : 1

Question Key Details :

Key	Value
Comprehension	MCQ

"আশা" ও "আনা" শব্দ দুটির অর্থ যথাক্রমে —

- (1) ইচ্ছা, অভিসাধ
- (2) ভরসা, আগমন
- (3) গমন, (আকাঙ্ক্ষা)
- (4) বসন, খেয়াল

Options :

- 212807118253 1
- 212807118254 2
- 212807118255 3
- 212807118256 4

Question Number : 145 Question Id : 21280719565 Question Type : MCQ Option Shuffling : No Is Question Mandatory : No Calculator : None  
Response Time : N.A Think Time : N.A Minimum Instruction Time : 0

Correct Marks : 5 Wrong Marks : 1

Question Key Details :

Key	Value
Comprehension	MCQ

নীচের কোনগুলো সমোচ্চারিত ভিন্নার্থক শব্দ নয় —

- (A) অবিরাম, অভিরাম
- (B) আবাস, বাসস্থান
- (C) অনিল, বাতাস
- (D) অস্থ, অস্ত্য
- (E) অশঙ্ক, অসঙ্ক

নিম্ন প্রদত্ত বিকল্পগুলি থেকে সঠিক উত্তরটি বেছে নিন :

- (1) শুধুমাত্র (A) এবং (D)
- (2) শুধুমাত্র (D) এবং (E)
- (3) শুধুমাত্র (B) এবং (E)
- (4) শুধুমাত্র (B) এবং (C)

Options :

- 212807118257 1
- 212807118258 2
- 212807118259 3
- 212807118260 4

Question Number : 146 Question Id : 21280729566 Question Type : MCQ Option Shuffling : No Is Question Mandatory : No Calculator : None  
Response Time : N.A Think Time : N.A Minimum Instruction Time : 0

Correct Marks : 5 Wrong Marks : 1

Question Key Details :

Key	Value
Comprehension	MCQ

অক্ষতাবে কোন কিছু অনুসরণ বোঝাতে যে বাগধারাটি ব্যবহৃত হয় —

- (1) কেঁচে গাভুর
- (2) গভ্রানিকা প্রবাহ
- (3) শব্দ প্রলয়
- (4) উনপঞ্চাশী বায়ু

Options :

- 212807118261 1
- 212807118262 2
- 212807118263 3
- 212807118264 4

Question Number : 147 Question Id : 21280729567 Question Type : MCQ Option Shuffling : No Is Question Mandatory : No Calculator : None  
Response Time : N.A Think Time : N.A Minimum Instruction Time : 0

Correct Marks : 5 Wrong Marks : 1

Question Key Details :

Key	Value
Comprehension	MCQ

তালিকা I এর সঙ্গে তালিকা II মেলাও :

তালিকা I

তালিকা II

- |                    |                      |
|--------------------|----------------------|
| (A) কলম পেয়া      | (I) কেরানিগিরি       |
| (B) এক চোখা        | (II) প্রহার          |
| (C) উত্তম মহাম     | (III) বা সহজে মরে না |
| (D) কই মাছের প্রাণ | (IV) পক্ষপাতিত্ব     |

নিম্ন প্রদত্ত বিকল্পগুলি থেকে সঠিক উত্তরটি বেছে নিন :

- (1) (A)-(II), (B)-(IV), (C)-(III), (D)-(I)
- (2) (A)-(III), (B)-(I), (C)-(IV), (D)-(II)
- (3) (A)-(IV), (B)-(III), (C)-(I), (D)-(II)
- (4) (A)-(I), (B)-(IV), (C)-(II), (D)-(III)

Options :

212807118265 1

212807118266 2

212807118267 3

212807118268 4

Question Number : 148 Question Id : 21280729568 Question Type : MCQ Option Shuffling : No Is Question Mandatory : No Calculator : None  
Response Time : N.A Think Time : N.A Minimum Instruction Time : 0

Correct Marks : 5 Wrong Marks : 1

Question Key Details :

Key	Value
Comprehension	MCQ

ইংরেজি Communication এর বাংলা পরিভাষা —

- (1) কথাবার্তা
- (2) বার্তা
- (3) সেরণ
- (4) জ্ঞাপন

Options :

212807118269 1

212807118270 2

212807118271 3

212807118272 4

Question Number : 149 Question Id : 21280729569 Question Type : MCQ Option Shuffling : No Is Question Mandatory : No Calculator : None  
Response Time : N.A Think Time : N.A Minimum Instruction Time : 0

Correct Marks : 5 Wrong Marks : 1

Question Key Details :

Key	Value
Comprehension	MCQ

ইংরেজি 'Mobile' শব্দের বাংলা পরিভাষা —

- (1) চলভাষ
- (2) চলাচল
- (3) দুরবাস্তা
- (4) দূরদর্শন

Options :

- 112807118273 1
- 112807118274 2
- 112807118275 3
- 112807118276 4

Question Number : 150 Question Id : 21280729570 Question Type : MCQ Option Skuffling : No Is Question Mandatory : No Calculator : None  
Response Time : N.A Think Time : N.A Minimum Instruction Time : 0

Correct Marks : 5 Wrong Marks : 1

Question Key Details :

Key	Value
Comprehension	MCQ

'আমি একটি গান লিখিলাম' — এটি কোন কাল ?

- (1) নিত্য বর্তমান কাল
- (2) ভবিষ্যৎ কাল
- (3) বর্তমান কাল
- (4) অতীত কাল

Options :

- 112807118277 1
- 112807118278 2
- 112807118279 3
- 112807118280 4

### Gujarati

Group Number :	4
Group Id :	212807843
Group Maximum Duration :	45
Group Minimum Duration :	45
Show Attended Group? :	No
Edit Attended Group? :	No
Break time :	0
Group Marks :	200
Is this Group for Examiner? :	No
Examiner permission :	Can View
Show Progress Bar? :	No

### Gujarati

Section Id :	112807751
Section Number :	1
Section type :	Online
Mandatory or Optional :	Mandatory
Number of Questions :	50
Number of Questions to be attempted :	40
Section Marks :	200
Enable Mark as Answered Mark for Review and Clear Response :	Yes

Maximum Instruction Time :	0
Sub-Section Number :	1
Sub-Section Id :	2128072153
Question Shuffling Allowed :	No
Is Section Default? :	null

Question Number : 151 Question Id : 21280729671 Question Type : MCQ Option Shuffling : No Is Question Mandatory : No Calculator : None  
Response Time : N.A Think Time : N.A Minimum Instruction Time : 0

Correct Marks : 5 Wrong Marks : 1

Question Key Details :

Key	Value
Comprehension	Compl

નીચેનો ગદ્યખંડ ધ્યાનપૂર્વક વાંચો.

પરમાત્માને પ્રાપ્ત કરવા માટે ત્રણ માર્ગો છે : કર્મમાર્ગ, ભક્તિમાર્ગ અને જ્ઞાનમાર્ગ. જીવ જો માર્ગનો અધિકારી હોય તે અધિકાર પરત્વે તેણે તે માર્ગ પકડવો જોઈએ. અર્જુન કર્મમાર્ગનો અધિકારી હતો. ગીતાનાં પહેલા અધ્યાયમાં તેણે ભગવાન પાસે સંન્યાસ લેવાની ઈચ્છા જણાવી. પરંતુ ભગવાને તેને યુદ્ધ સમયે સંન્યાસ લેવાની ના પાડી, અને તેને કર્મમાર્ગમાં પ્રવૃત્ત કર્યો. વિદુરજ્ઞ ભક્તિમાર્ગના અધિકારી જીવ હતા. તેથી મહામારુતના યુદ્ધ દરમિયાન તેઓને જગ્યાએ જવાની છૂટ આપી. ક્રિષ્ણજ્ઞ જ્ઞાનમાર્ગના અધિકારી જીવ હતા, તેથી એકાદશ સ્કંધમાં ભગવાને તેને જ્ઞાનમાર્ગનો ઉપદેશ કર્યો.

દરદીની નાડ પાસનીને જેમ વેદ એક દરદીને એવી સલાહ આપે છે કે, તારે દહીં ખાવું, બીજું કંઈ ખાવું નહીં, જ્યારે બીજા દરદીને એવી સલાહ આપે છે કે, તું જે જરા પણ દહીં ખાઈશ તો મરી જઈશ. એ પ્રમાણે જીવ જો માર્ગનો અધિકારી હોય તે પ્રકારનો ઉપદેશ તેનું કલ્યાણ કરે. આખરે તો ત્રણ માર્ગ આગળ જતાં ભેગા થઈ જાય છે. ત્રણમાંથી ગમે તે એક ઉપર જનારો જીવ આખરે પરમાત્માને જ પ્રાપ્ત કરે છે.

ગદ્યખંડના આધારે નીચે દર્શાવેલા પ્રશ્નોના યોગ્ય ઉત્તરો આપો.

ઈશ્વરને ચામચા માટેના માર્ગ કેટલા છે?

- (1) પાંચ
- (2) ત્રણ
- (3) ચાર
- (4) બે

Options :

- 212807113681 1
- 212807113682 1
- 212807113683 3
- 212807113684 4

Question Number : 152 Question Id : 21280729672 Question Type : MCQ Option Shuffling : No Is Question Mandatory : No Calculator : None  
Response Time : N.A Think Time : N.A Minimum Instruction Time : 0

Correct Marks : 5 Wrong Marks : 1

Question Key Details :

Key	Value
Comprehension	Compl

## નીચેનો ગદ્યખંડ ધ્યાનપૂર્વક વાંચો

પરમાત્માને પ્રાપ્ત કરવા માટે ત્રણ માર્ગો છે : કર્મમાર્ગ, ભક્તિમાર્ગ અને જ્ઞાનમાર્ગ. જીવ જો માર્ગનો અધિકારી હોય તે અધિકાર પરત્વે તેણે તે માર્ગ પકડવો જોઈએ. અર્જુન કર્મમાર્ગનો અધિકારી હતો. ગીતાના પહેલા અધ્યાયમાં તેણે ભગવાન પ્રાણે સંન્યાસ લેવાની ઇચ્છા જણાવી. પરંતુ ભગવાને તેને વૃદ્ધ સમયે સંન્યાસ લેવાની ના પાડી, અને તેને કર્મમાર્ગમાં પ્રવૃત્ત કર્યો. વિદુરજી ભક્તિમાર્ગના અધિકારી જીવ હતા. તેથી મહાભારતના વૃદ્ધ દરમિયાન તેઓને મત્રાએ જવાની છૂટ આપી. ઉદ્ધવજી જ્ઞાનમાર્ગના અધિકારી જીવ હતા, તેથી એકાદશ સ્કંધમાં ભગવાને તેને જ્ઞાનમાર્ગનો ઉપદેશ કર્યો.

દરદીની નાડ પારખીને જોમ વેદ્ય એક દરદીને એવી સલાહ આપે છે કે, તારે દહીં ખાવું, બીજું કંઈ ખાવું નહીં, જ્યારે બીજા દરદીને એવી સલાહ આપે છે કે, તું જો જરા પણ દહીં ખાઈશ તો મરી જઈશ. એ પ્રમાણે જીવ જો માર્ગનો અધિકારી હોય તે પ્રકારનો ઉપદેશ તેનું કસ્યાણ કરે. આખરે તો ત્રણ માર્ગ આગળ જતાં ભેગા થઈ જાય છે. ત્રણમાંથી ગમે તે એક કૌંસ જનારો જીવ આખરે પરમાત્માને જ પ્રાપ્ત કરે છે.

ગદ્યખંડના આધારે નીચે દર્શાવેલા પ્રશ્નોના યોગ્ય ઉત્તરો આપો.

નીચેનામાંથી કર્મમાર્ગી કોણ છે?

- (1) સંહદેવ
- (2) બીમ
- (3) યુધિષ્ઠિર
- (4) અર્જુન

Options :

2128071130603 1

2128071130604 2

2128071130605 3

2128071130606 4

Question Number : 153 Question Id : 21180719673 Question Type : MCQ Option Shuffling : No Is Question Mandatory : No Calculator : None Response Time : N.A Think Time : N.A Minimum Instruction Time : 0

Correct Marks : 5 Wrong Marks : 1

Question Key Details :

Key	Value
Comprehension	Compl



## નીચેનો ગદ્યખંડ ધ્યાનપૂર્વક વાંચો

પરમાત્માને પ્રાપ્ત કરવા માટે ત્રણ માર્ગો છે : કર્મમાર્ગ, ભક્તિમાર્ગ અને જ્ઞાનમાર્ગ. જીવ જો માર્ગનો અધિકારી હોય તે અધિકાર પરત્વે તેણે તે માર્ગ પકડવો જોઈએ. અર્જુન કર્મમાર્ગનો અધિકારી હતો. ગીતાના પહેલા અધ્યાયમાં તેણે ભગવાન પ્રાણે સંન્યાસ લેવાની ઇચ્છા જણાવી. પરંતુ ભગવાને તેને યુદ્ધ સમયે સંન્યાસ લેવાની ના પાડી, અને તેને કર્મમાર્ગમાં પ્રવૃત્ત કર્યો. વિદુરજી ભક્તિમાર્ગના અધિકારી જીવ હતા. તેથી મહાભારતના યુદ્ધ દરમિયાન તેઓને ઘરાબે જવાની છૂટ આપી. ઉદ્ધવજી જ્ઞાનમાર્ગના અધિકારી જીવ હતા, તેથી એકાદશ સ્કંધમાં ભગવાને તેને જ્ઞાનમાર્ગનો ઉપદેશ કર્યો.

દરદીની નાડ પારખીને જોમ વેદ્ય એક દરદીને એવી સલાહ આપે છે કે, તારે દહીં ખાવું, બીજું કંઈ ખાવું નહીં, જ્યારે બીજા દરદીને એવી સલાહ આપે છે કે, તું જો જરા પણ દહીં ખાઈશ તો મરી જઈશ. એ પ્રમાણે જીવ જો માર્ગનો અધિકારી હોય તે પ્રકારનો ઉપદેશ તેનું કસ્યાણ કરે. આખરે તો ત્રણ માર્ગ આગળ જતાં ભેગા થઈ જાય છે. ત્રણમાંથી જમે તે એક કિંમત જનારો જીવ આખરે પરમાત્માને જ પ્રાપ્ત કરે છે.

ગદ્યખંડના આધારે નીચે દર્શાવેલા પ્રશ્નોના યોગ્ય ઉત્તરો આપો.

નીચેનામાંથી ભક્તિમાર્ગ પસંદ કરનારું કોણ છે?

- (1) વિદુર
- (2) નકુલ
- (3) સહદેવ
- (4) યુધિષ્ઠિર

Options :

212807113089 1

212807113090 2

212807113091 3

212807113092 4

Question Number : 154 Question Id : 21180719674 Question Type : MCQ Option Shuffling : No Is Question Mandatory : No Calculator : None  
Response Time : N.A Think Time : N.A Minimum Instruction Time : 0

Correct Marks : 5 Wrong Marks : 1

Question Key Details :

Key	Value
Comprehension	Compl

## નીચેનો ગદ્યખંડ ધ્યાનપૂર્વક વાંચો

પરમાત્માને પ્રાપ્ત કરવા માટે ત્રણ માર્ગો છે : કર્મમાર્ગ, ભક્તિમાર્ગ અને જ્ઞાનમાર્ગ. જીવ જો માર્ગનો અધિકારી હોય તે અધિકાર પરત્વે તેણે તે માર્ગ પકડવો જોઈએ. અર્જુન કર્મમાર્ગનો અધિકારી હતો. ગીતાના પહેલા અધ્યાયમાં તેણે ભગવાન પ્રાણે સંન્યાસ લેવાની ઇચ્છા જણાવી. પરંતુ ભગવાને તેને યુદ્ધ સમયે સંન્યાસ લેવાની ના પાડી, અને તેને કર્મમાર્ગમાં પ્રવૃત્ત કર્યો. વિકૃત ભક્તિમાર્ગના અધિકારી જીવ હતા. તેથી મહાભારતના યુદ્ધ દરમિયાન તેઓને ઘરાબે જવાની છૂટ આપી. ઉદ્ધવજી જ્ઞાનમાર્ગના અધિકારી જીવ હતા, તેથી એકાદશ સ્કંધમાં ભગવાને તેને જ્ઞાનમાર્ગનો ઉપદેશ કર્યો.

દરદીની નાડ પારખીને જોમ વેદ્ય એક દરદીને એવી સલાહ આપે છે કે, તારે દહીં ખાવું, બીજું કંઈ ખાવું નહીં, જ્યારે બીજા દરદીને એવી સલાહ આપે છે કે, તું જો જરા પણ દહીં ખાઈશ તો મરી જઈશ. એ પ્રમાણે જીવ જો માર્ગનો અધિકારી હોય તે પ્રકારનો ઉપદેશ તેનું કસ્યાણ કરે. આખરે તો ત્રણ માર્ગ આગળ જતાં ભેગા થઈ જાય છે. ત્રણમાંથી ગમે તે એક ઉપર જનારો જીવ આખરે પરમાત્માને જ પ્રાપ્ત કરે છે.

ગદ્યખંડના આધારે નીચે દર્શાવેલા પ્રશ્નોના યોગ્ય ઉત્તરો આપો.

ભગવાને એકાદશ સ્કંધમાં જ્ઞાનમાર્ગનો ઉપદેશ કોન આપેલ?

- (1) અર્જુનને
- (2) વિકૃતને
- (3) ઉદ્ધવને
- (4) મીરાંખાઈ

Options :

2128071138093 1

2128071138094 2

2128071138095 3

2128071138096 4

Question Number : 165 Question Id : 21180719675 Question Type : MCQ Option Shuffling : No Is Question Mandatory : No Calculator : None Response Time : N.A Think Time : N.A Minimum Instruction Time : 0

Correct Marks : 5 Wrong Marks : 1

Question Key Details :

Key	Value
Comprehension	Compl

## નીચેનો ગદ્યખંડ ધ્યાનપૂર્વક વાંચો

પરમાત્માને પ્રાપ્ત કરવા માટે ત્રણ માર્ગો છે : કર્મમાર્ગ, ભક્તિમાર્ગ અને જ્ઞાનમાર્ગ. જીવ જો માર્ગનો અધિકારી હોય તે અધિકાર પરત્વે તેણે તે માર્ગ પકડવો જોઈએ. અર્જુન કર્મમાર્ગનો અધિકારી હતો. ગીતાના પહેલા અધ્યાયમાં તેણે ભગવાન પ્રાણે સંન્યાસ લેવાની ઇચ્છા જણાવી. પરંતુ ભગવાને તેને યુદ્ધ સમયે સંન્યાસ લેવાની ના પાડી, અને તેને કર્મમાર્ગમાં પ્રવૃત્ત કર્યો. વિદુરજી ભક્તિમાર્ગના અધિકારી જીવ હતા. તેથી મહાભારતના યુદ્ધ દરમિયાન તેઓને ધત્રાએ જવાની છૂટ આપી. ઉદ્ધવજી જ્ઞાનમાર્ગના અધિકારી જીવ હતા, તેથી એકાદશ સ્કંધમાં ભગવાને તેને જ્ઞાનમાર્ગનો ઉપદેશ કર્યો.

દરદીની નાડ પારખીને જોમ વેદ્ય એક દરદીને એવી સલાહ આપે છે કે, તારે દહીં ખાવું, બીજું કંઈ ખાવું નહીં, જ્યારે બીજા દરદીને એવી સલાહ આપે છે કે, તું જો જરા પણ દહીં ખાઈશ તો મરી જઈશ. એ પ્રમાણે જીવ જો માર્ગનો અધિકારી હોય તે પ્રકારનો ઉપદેશ તેનું કસ્યાણ કરે. આખરે તો ત્રણ માર્ગ આગળ જતાં ભેગા થઈ જાય છે. ત્રણમાંથી ગમે તે એક ઊંચ જનારો જીવ આખરે પરમાત્માને જ પ્રાપ્ત કરે છે.

ગદ્યખંડના આધારે નીચે દર્શાવેલા પ્રશ્નોના યોગ્ય ઉત્તરો આપો.

ગદ્યખંડમાં કયા ધર્મગ્રંથનો ઉલ્લેખ છે?

- (1) ભગવદ્ગીતા
- (2) ભાગવત
- (3) શિવપુરાણ
- (4) અર્જુનગીતા

Options :

212807118697-1

212807118698-2

212807118699-3

212807118700-4

Sub-Section Number :

2

Sub-Section Id :

2128072154

Question Shuffling Allowed :

No

Is Section Default? :

nil

Question Number : 156 Question Id : 21280719676 Question Type : MCQ Option Shuffling : No Is Question Mandatory : No Calculator : None

Response Time : N.A Think Time : N.A Minimum Instruction Time : 0

Correct Marks : 5 Wrong Marks : 1

Question Key Details :

Key	Value
Comprehension	Comp2

## નીચેનો ગઢખંડ ધ્યાનપૂર્વક વાંચો

ગોરાબોને સારુ જે નિશાળો હતી તેમાં હં મારા છોકરાઓને મોકલી રાકતો હતો, પણ તે કેવળ મહેરબાની અને અલ્પવાદ દાખલ બીજા બધા હિંદી બાળકો ત્યાં બણી રહે તેમ નહોતું. હિંદી બાળકોને બણવવા સારુ ખ્રિસ્તી મિશનની નિશાળો હતી. તેમાં હં મારા બાળકોને મોકલવા તૈયાર નહોતો. ત્યાં અપાતી કેળવણી મને ગમતી નહોતી. ગુજરાતી ઢારા તો ત્યાં શિક્ષણ મળે જ ક્યાંથી? અંગ્રેજ ઢારા જ મળે, અથવા બહુ પ્રયાસ કરીએ તો અશુદ્ધ તામિલ કે હિંદી ઢારા. આ અને બીજા ખામીઓ હં છુટવી રાકું તેમ નહોતું.

હં ખોતે બાળકોને ભણાવવા થોડોક પ્રયત્ન કરતો, પણ તે અત્યંત અનિયમિત હતો. ગુજરાતી શિક્ષક મને અનુકુળ આવે તેવો હં ન રાધી રાક્યો.

હં મૂંઝવ્યો. અને રુચે તેવું શિક્ષણ બાળકોને મળે એવા અંગ્રેજ શિક્ષકને સારુ મેં જલ્દેરખબર આપી. તેનાથી જે શિક્ષક મળી આવે તેની મારફતે થોડું નિયમિત શિક્ષણ આપવું, ને બાકી મારે પડે જેમતેમ ચલાવવું એમ ધ્યાનું. એક અંગ્રેજ ખાઈને સાત પાઉન્ડના પગારથી રોકી ને કંઈક આગળ ગાડું ચલાવ્યું.

ગઢખંડના આધારે નીચે દશવિલા પ્રશ્નોના યોગ્ય ઉત્તરો આપો.

ખ્રિસ્તી મિશનની શાળામાં કઈ ભાષામાં શિક્ષણ અપાતુ હતું?

- (1) કન્નડ
- (2) મરાઠી
- (3) ગુજરાતી
- (4) અંગ્રેજી

Options :

212807118701 1

212807118702 2

212807118703 3

212807118704 4

Question Number : 15\* Question Id : 21180719677 Question Type : MCQ Option Shuffling : No Is Question Mandatory : No Calculator : None  
Response Time : N.A Think Time : N.A Minimum Instruction Time : 0

Correct Marks : 5 Wrong Marks : 1

Question Key Details :

Key	Value
Comprehension	Comp1

## નીચેનો ગઢખંડ ધ્યાનપૂર્વક વાંચો

ગોરાબોને સારુ જે નિશાળો હતી તેમાં હં મારા છોકરાઓને મોકલી રકતો હતો, પણ તે કેવળ મહેરબાની અને અલવાદ દાખલ બીલ બધા હિંદી બાળકો ત્યાં બણી રકે તેમ નહોતું. હિંદી બાળકોને બણવધવા સારુ ખિસ્તી મિસનની નિશાળો હતી. તેમાં હં મારા બાળકોને મોકલવા તૈયાર નહોતો. ત્યાં અપાલી કેળવણી મને ગમતી નહોતી. ગુજરાતી દ્વારા તો ત્યાં શિક્ષણ મળે જ ક્યાંથી? અંગ્રેજ દ્વારા જ મળે, અથવા બહુ પ્રયાસ કરીએ તો અશુદ્ધ તામિલ કે હિંદી દ્વારા. આ અને બીજી ખામીઓ હં છુટવી રકું તેમ નહોતું.

હં ખોતે બાળકોને બણાવધા થોડોક પ્રયત્ન કરતો, પણ તે અત્યંત અનિયમિત હતો. ગુજરાતી શિક્ષક મને અનુકુળ આવે તેવો હં ન રોધી રકવો.

હં મૂંઝવ્યો. અને રુચે તેવું શિક્ષણ બાળકોને મળે એવા અંગ્રેજ શિક્ષકને સારુ મેં જલ્દરખબર આપી. તેનાથી જે શિક્ષક મળી આવે તેની મારફતે થોડું નિયમિત શિક્ષણ આપવું, ને બાકી મારે પડે જેમતેમ ચલાવવું એમ ધ્યાનું. એક અંગ્રેજ બાઈને સાત પાઉન્ડના પગારથી રોકી ને કંઈક આગળ ગાડું ચલાવ્યું.

ગઢખંડના આધારે નીચે દશવિલા પ્રશ્નોના યોગ્ય ઉત્તરો આપો.

ગાંધીનું અંગ્રેજ બાઈને કેટલો પગાર આવે છે?

- (1) પાંચ પાઉન્ડ
- (2) સાત પાઉન્ડ
- (3) દસ પાઉન્ડ
- (4) પંદર પાઉન્ડ

Options :

212807118708-1

212807118708-2

212807118708-3

212807118708-4

Question Number : 155 Question Id : 21180719678 Question Type : MCQ Option Shuffling : No Is Question Mandatory : No Calculator : None Response Time : N.A Think Time : N.A Minimum Instruction Time : 0

Correct Marks : 5 Wrong Marks : 1

Question Key Details :

Key	Value
Comprehension	Comp1

## નીચેનો ગઠખંડ ધ્યાનપૂર્વક વાંચો

ગોરાબોને સારુ જે નિશાળો હતી તેમાં હું મારા છોકરાઓને મોકલી શકતો હતો, પણ તે કેવળ મહેરબાની અને અપવાદ દ્વારા બીજા બધાં હિંદી બાળકો ત્યાં બણી શકે તેમ નહોતું. હિંદી બાળકોને ભણવવા સારુ ખિસ્તી મિસનની નિશાળો હતી. તેમાં હું મારા બાળકોને મોકલવા તૈયાર નહોતો. ત્યાં અપાતી કેળવણી મને ગમતી નહોતી. ગુજરાતી દ્વારા તો ત્યાં શિક્ષણ મળે જ ક્યાંથી? અંગ્રેજ દ્વારા જ મળે, અથવા બહુ પ્રયાસ કરીએ તો અશુદ્ધ તામિલ કે હિંદી દ્વારા. આ અને બીજી ખામીઓ હું છુટવી શકું તેમ નહોતું.

હું પોતે બાળકોને ભણાવવા થોડોક પ્રયત્ન કરતો, પણ તે અત્યંત અનિયમિત હતો. ગુજરાતી શિક્ષક મને અનુકુળ આવે તેવો હું ન શક્યો.

હું મૂંઝવ્યો. અને રુચે તેવું શિક્ષણ બાળકોને મળે એવા અંગ્રેજી શિક્ષકને સારુ મેં બહેરખબર આપી. તેનાથી જે શિક્ષક મળી આવે તેની મારફતે થોડું નિયમિત શિક્ષણ આપવું, ને બાકી મારે પડે જેમતેમ ચલાવવું એમ ધ્યાનું. એક અંગ્રેજ બાઈને સાત પાઉન્ડના પગારથી રોકી ને કંઈક આગળ ગાડું ચલાવ્યું.

ગઠખંડના આધારે નીચે દર્શાવેલા પ્રશ્નોના યોગ્ય ઉત્તરો આપો.

ગાંધીજી શાનિ બહેરખબર આપે છે?

- (1) અંગ્રેજી શિક્ષકની
- (2) મરાઠી શિક્ષકની
- (3) હિન્દી શિક્ષકની
- (4) કન્નડ શિક્ષકની

Options :

212807118709 1

212807118710 2

212807118711 3

212807118712 4

Question Number : 159 Question Id : 21180719879 Question Type : MCQ Option Shuffling : No Is Question Mandatory : No Calculator : None  
Response Time : N.A Think Time : N.A Minimum Instruction Time : 0

Correct Marks : 5 Wrong Marks : 1

Question Key Details :

Key	Value
Comprehension	Comp1

## नीचेનો गद्यभंड ध्यानपूर्वक वांचो

गोराज्याने सारु जे निशाणो हती तेमां हं मारा छोटकाज्याने भोक्ती शकतो हतो, पण ते केवळ महोरज्यानी जने आपवाद हापल. जीव जेवां हिंदी जाणको त्यां जशी सके तेम नहोतुं. हिंदी जाणकोने जणवया सारु खिस्ती बिसननी निशाणो हती. तेमां हं मारां जाणकोने भोक्तवा तयार नहोतो. त्यां जपानी केणवशी भने गमती नहोती. गुजराती द्वारा तो त्यां शिक्षण भणे जे ज्यांधी? अंशेण द्वारा जे भणे, जयवा जे प्रयास करीजे तो अशुद्ध तामिल के हिंदी द्वारा. जे जने जीण जागीजो हं एरवीं शकुं तेम नहोतुं.

हं पोते जाणकोने जणवया थोडोक प्रयत्न करतो, पण ते अत्यंत अनियमित हतो. गुजराती शिक्षक भने अनुकुण जावे तेवो हं न शोधी शक्यो.

हं भूंज्या. जने रुजे तेवुं शिक्षण जाणकोने भणे जेवा अंशेण शिक्षकने सारु में जहेरभणर जापी. तेनाधी जे शिक्षक भणी जावे तेनी मारुते थोडुं नियमित शिक्षण जापवुं, ने जाडी मारे पडे जेभतेम सवावपुं जेम धारुं. जेक अंशेण जाईने सात पाठिन्डना पगारधी रोडी ने कॅडक आगण गाडुं जवाणुं.

गद्यभंडना आधारें नीचे दशविधा प्रश्नोना योग्य चित्तरो जापो.

गांधीज पोतानां जाणकोने केवी रीते जणवता हता?

- (1) नियमितपणे
- (2) चडिकसांथी
- (3) अनियमितपणे
- (4) जहेरकरीधी

Options :

212807118713 1

212807118714 2

212807118715 3

212807118716 4

Question Number : 160 Question Id : 21280719650 Question Type : MCQ Option Shuffling : No Is Question Mandatory : No Calculator : None Response Time : N.A Think Time : N.A Minimum Instruction Time : 0

Correct Marks : 5 Wrong Marks : 1

Question Key Details :

Key	Value
Comprehension	Comp1

## નીચેનો ગઢખંડ ધ્યાનપૂર્વક વાંચો

ગોરાબોને સારુ જે નિશાળો હતી તેમાં હં મારા છોકરાઓને મોકલી રકતો હતો, પણ તે કેવળ મહેરબાની અને અપવાદ દાખલ બીજાં બધાં હિંદી બાળકો ત્યાં બણી રકે તેમ નહોતું. હિંદી બાળકોને બણવચવા સારુ ખિસ્તી મિસનની નિશાળો હતી. તેમાં હં મારાં બાળકોને મોકલવા તૈયાર નહોતો. ત્યાં અપાલી કેળવણી મને ગમતી નહોતી. ગુજરાતી દ્વારા તો ત્યાં શિક્ષણ મળે જ ક્યાંથી? અંગ્રેજ દ્વારા જ મળે, અથવા બહુ પ્રયાસ કરીએ તો અશુદ્ધ તામિલ કે હિંદી દ્વારા. આ અને બીજી ખામીઓ હં છુટવી રકું તેમ નહોતું.

હં ખોતે બાળકોને બણાવવા થોડોક પ્રયત્ન કરતો, પણ તે અત્યંત અનિયમિત હતો. ગુજરાતી શિક્ષક મને અનુકુળ આવે તેવો હં ન રોધી રકવો.

હં મૂંઝવણો અને રુચે તેવું શિક્ષણ બાળકોને મળે એવા અંગ્રેજી શિક્ષકને સારુ મેં વ્હેરખબર આપી. તેનાથી જે શિક્ષક મળી આવે તેની મારફતે થોડું નિયમિત શિક્ષણ આપવું, ને બાકી મારે પડે જેમતેમ ચલાવવું એમ ધ્યાનું. એક અંગ્રેજ ખાઈને સાત પાઉન્ડના પગારથી રોકી ને કંઈક આગળ ગાડું ચલાવ્યું.

ગઢખંડના આધારે નીચે દશવિલા પ્રશ્નોના યોગ્ય ઉત્તરો આપો.

બાળકોને કોણ નિયમિત બણાવે છે?

- (1) ગાંધીજી
- (2) ગુજરાતી શિક્ષક
- (3) હિંદી શિક્ષક
- (4) અંગ્રેજ ખાઈ

Options :

212807118717 1

212807118718 2

212807118719 3

212807118720 4

Sub-Section Number :

3

Sub-Section Id :

2128072153

Question Shuffling Allowed :

No

Is Section Default? :

null

Question Number : 161 Question Id : 21280719681 Question Type : MCQ Option Shuffling : No Is Question Mandatory : No Calculator : None

Response Time : N.A Think Time : N.A Minimum Instruction Time : 0

Correct Marks : 5 Wrong Marks : 1

Question Key Details :

Key	Value
Comprehension	Comp3



## નીચેનો ગઘખંડ ધ્યાનપૂર્વક વાંચો

પૃથ્વી, જળ, તેજ, વાયુ અને આકાશ - આ પાંચ તત્ત્વો વડે પ્રકૃતિ બનેલી છે. મનુષ્ય અને તેની આસપાસનું સમગ્ર જગત પ્રકૃતિની દેન છે. માનવજીવન પણ મોટા ભાગે પ્રકૃતિ પર આધારિત છે અને પ્રકૃતિને આધીન પણ છે, તેથી મનુષ્ય અને પ્રકૃતિ એકબીજાથી અભિન્ન છે.

આપણું જીવન આદિકાળથી પ્રકૃતિની સાથે વણાયેલું રહ્યું છે. પ્રકૃતિ જીવનભર આપણો સાથ નિભાવે છે. આપણું જીવન સંપૂર્ણપણે પ્રકૃતિ પર નિર્ભર હોવા છતાં આપણે તેની સંભાળ રાખતા નથી. આપણી બેદરકારીને લીધે હવા-પાણી અને અવજનનું પ્રદૂષણ વધી ગયું છે, તેથી પ્રકૃતિનું સંતુલન ખોરવાઈ ગયું છે. આથી ગ્લોબલ વોર્મિંગનું પ્રમાણ સતત વધી રહ્યું છે.

ગ્લોબલ વોર્મિંગના કારણે ધ્રુવપ્રદેશો પરનો બરફ ઝડપથી ઓગળી રહ્યો છે અને સમુદ્રોની સપાટીમાં ભયજનક હલે વધારો થઈ રહ્યો છે. સમુદ્રકિનારા પર વસેલાં તમામ મોટાં નગરો એક દિવસ સમુદ્રમાં સમાઈ જશે એવો ભય ઊભો થયો છે.

વિકાસને નામે આપણે શહેરીકરણ અને ઔદ્યોગીકરણ પાછળ આંધળી દોટ મૂકી છે. વાહનો, ઉદ્યોગો અને સુખ-સગવડનાં સાધનોને લીધે હવામાં ધુમાડો અને કાર્બનની માત્રા દિવસે-દિવસે વધતી જાય છે. ગેસ, કોલસો, ખનીજ તેલ અને અન્ય ખનીજોના બંધારો ઝડપથી ખાલી થઈ રહ્યા છે. ઉદ્યોગો અને શહેરીના વિકાસ માટે ખેતરો અને જંગલોનો બેકામ ભોગ લેવાઈ રહ્યો છે, એનાથી પ્રાકૃતિક સંતુલન ખોરવાઈ ગયું છે.

પ્રાકૃતિક અસંતુલનને કારણે કતુચક પણ ખોરવાઈ ગયું છે.

ગઘખંડના આધારે નીચે દર્શાવેલા પ્રશ્નોના યોગ્ય ઉત્તરો આપો.

પ્રકૃતિ કેટલા તત્ત્વોની બનેલી છે?

- (1) પાંચ
- (2) ત્રણ
- (3) ચાર
- (4) સાત

Options :

112807118721 1

112807118722 1

112807118723 3

112807118724 4

Question Number : 162 Question Id : 21280729682 Question Type : MCQ Option Skuffling : No Is Question Mandatory : No Calculator : None

Response Time : N.A Think Time : N.A Minimum Instruction Time : 0

Correct Marks : 5 Wrong Marks : 1

Question Key Details :

Key	Value
Comprehension	Comp3

## નીચેનો ગઘખંડ ધ્યાનપૂર્વક વાંચો

પૃથ્વી, જળ, તેજ, વાયુ અને આકાશ - આ પાંચ તત્ત્વો વડે પ્રકૃતિ બનેલી છે. મનુષ્ય અને તેની આસપાસનું સમગ્ર જગત પ્રકૃતિની દેન છે. માનવજીવન પણ મોટા ભાગે પ્રકૃતિ પર આધારિત છે અને પ્રકૃતિને આધીન પણ છે, તેથી મનુષ્ય અને પ્રકૃતિ એકબીજાથી અભિન્ન છે.

આપણું જીવન આદિકાળથી પ્રકૃતિની સાથે વણાયેલું રહ્યું છે. પ્રકૃતિ જીવનભર આપણો સાથ નિભાવે છે. આપણું જીવન સંપૂર્ણપણે પ્રકૃતિ પર નિર્ભર હોવા છતાં આપણે તેની સંભાળ રાખતા નથી. આપણી બેદરકારીને લીધે હવા-પાણી અને અવજનનું પ્રદૂષણ વધી ગયું છે, તેથી પ્રકૃતિનું સંતુલન ખોરવાઈ ગયું છે. આથી ગ્લોબલ વોર્મિંગનું પ્રમાણ સતત વધી રહ્યું છે.

ગ્લોબલ વોર્મિંગના કારણે ધ્રુવપ્રદેશો પરનો બરફ ઝડપથી ઓગળી રહ્યો છે અને સમુદ્રોની સપાટીમાં ભયજનક હદે વધારો થઈ રહ્યો છે. સમુદ્રકિનારા પર વસેલાં તમામ મોટાં નગરો એક દિવસ સમુદ્રમાં સમાઈ જશે એવો ભય ઊભો થયો છે.

વિકાસને નામે આપણે શહેરીકરણ અને ઔદ્યોગીકરણ પાછળ આંધળી દોટ મૂકી છે. વાહનો, ઉદ્યોગો અને સુખ-સગવડનાં સાધનોને લીધે હવામાં ધુમાડો અને કાર્બનની માત્રા દિવસે-દિવસે વધતી જાય છે. ગેસ, કોલસો, ખનીજ તેલ અને અન્ય ખનીજોના બંધારો ઝડપથી ખાલી થઈ રહ્યા છે. ઉદ્યોગો અને શહેરીના વિકાસ માટે ખેતરો અને જંગલોનો બેકામ ભોગ લેવાઈ રહ્યો છે, એનાથી પ્રાકૃતિક સંતુલન ખોરવાઈ ગયું છે.

પ્રાકૃતિક અસંતુલનને કારણે કતુચક પણ ખોરવાઈ ગયું છે.

ગઘખંડના આધારે નીચે દર્શાવેલા પ્રશ્નોના યોગ્ય ઉત્તરો આપો.

મનુષ્ય અને પ્રકૃતિ વચ્ચે કેવો સંબંધ છે?

- (1) અલ્પ
- (2) આંશિક
- (3) અભિન્ન
- (4) મર્યાદિત

Options :

112807118721 1

112807118721 2

112807118721 3

112807118721 4

Question Number : 163 Question Id : 21280729683 Question Type : MCQ Option Skuffling : No Is Question Mandatory : No Calculator : None

Response Time : N.A Think Time : N.A Minimum Instruction Time : 0

Correct Marks : 5 Wrong Marks : 1

Question Key Details :

Key	Value
Comprehension	Comp3

## નીચેનો ગઘખંડ ધ્યાનપૂર્વક વાંચો

પૃથ્વી, જળ, તેજ, વાયુ અને આકાશ - આ પાંચ તત્ત્વો વડે પ્રકૃતિ બનેલી છે. મનુષ્ય અને તેની આસપાસનું સમગ્ર જગત પ્રકૃતિની દેન છે. માનવજીવન પણ મોટા ભાગે પ્રકૃતિ પર આધારિત છે અને પ્રકૃતિને આધીન પણ છે, તેથી મનુષ્ય અને પ્રકૃતિ એકબીજાથી અભિન્ન છે.

આપણું જીવન આદિકાળથી પ્રકૃતિની સાથે વણાયેલું રહ્યું છે. પ્રકૃતિ જીવનભર આપણો સાથ નિભાવે છે. આપણું જીવન સંપૂર્ણપણે પ્રકૃતિ પર નિર્ભર હોવા છતાં આપણે તેની સંભાળ રાખતા નથી. આપણી બેદરકારીને લીધે હવા-પાણી અને અવજનનું પ્રદૂષણ વધી ગયું છે, તેથી પ્રકૃતિનું સંતુલન ખોરવાઈ ગયું છે. આથી ગ્લોબલ વોર્મિંગનું પ્રમાણ સતત વધી રહ્યું છે.

ગ્લોબલ વોર્મિંગના કારણે ધ્રુવપ્રદેશો પરનો બરફ ઝડપથી ઓગળી રહ્યો છે અને સમુદ્રોની સપાટીમાં ભયજનક હલે વધારો થઈ રહ્યો છે. સમુદ્રકિનારા પર વસેલાં તમામ મોટાં નગરો એક દિવસ સમુદ્રમાં સમાઈ જશે એવો ભય ઊભો થયો છે.

વિકાસને નામે આપણે શહેરીકરણ અને ઔદ્યોગીકરણ પાછળ આંધળી દોટ મૂકી છે. વાહનો, ઉદ્યોગો અને સુખ-સગવડનાં સાધનોને લીધે હવામાં ધુમાડો અને કાર્બનની માત્રા દિવસે-દિવસે વધતી જાય છે. ગેસ, કોલસો, ખનીજ તેલ અને અન્ય ખનીજોના બંધારો ઝડપથી ખાલી થઈ રહ્યા છે. ઉદ્યોગો અને શહેરોના વિકાસ માટે ખેતરો અને જંગલોનો બેકામ બોગ લેવાઈ રહ્યો છે, એનાથી પ્રાકૃતિક સંતુલન ખોરવાઈ ગયું છે.

પ્રાકૃતિક અસંતુલનને કારણે કતુચક પણ ખોરવાઈ ગયું છે.

ગઘખંડના આધારે નીચે દર્શાવેલા પ્રશ્નોના યોગ્ય ઉત્તરો આપો.

વધતા જતા પ્રદૂષણ પાછળ કોણ જવાબદાર છે?

- (1) પરુઓ
- (2) પક્ષીઓ
- (3) નદી
- (4) માનવી

Options :

112807118728 1

112807118730 2

112807118731 3

112807118732 4

Question Number : 164 Question Id : 21280729684 Question Type : MCQ Option Skuffling : No Is Question Mandatory : No Calculator : None

Response Time : N.A Think Time : N.A Minimum Instruction Time : 0

Correct Marks : 5 Wrong Marks : 1

Question Key Details :

Key	Value
Comprehension	Comp3

## નીચેનો ગઘખંડ ધ્યાનપૂર્વક વાંચો

પૃથ્વી, જળ, તેજ, વાયુ અને આકાશ - આ પાંચ તત્ત્વો વડે પ્રકૃતિ બનેલી છે. મનુષ્ય અને તેની આસપાસનું સમગ્ર જગત પ્રકૃતિની દેન છે. માનવજીવન પણ મોટા ભાગે પ્રકૃતિ પર આધારિત છે અને પ્રકૃતિને આધીન પણ છે, તેથી મનુષ્ય અને પ્રકૃતિ એકબીજાથી અભિન્ન છે.

આપણું જીવન આદિકાળથી પ્રકૃતિની સાથે વણાયેલું રહ્યું છે. પ્રકૃતિ જીવનભર આપણો સાથ નિભાવે છે. આપણું જીવન સંપૂર્ણપણે પ્રકૃતિ પર નિર્ભર હોવા છતાં આપણે તેની સંભાળ રાખતા નથી. આપણી બેદરકારીને લીધે હવા-પાણી અને અવજનનું પ્રદૂષણ વધી ગયું છે, તેથી પ્રકૃતિનું સંતુલન ખોરવાઈ ગયું છે. આથી ગ્લોબલ વોર્મિંગનું પ્રમાણ સતત વધી રહ્યું છે.

ગ્લોબલ વોર્મિંગના કારણે ધ્રુવપ્રદેશો પરનો બરફ ઝડપથી ઓગળી રહ્યો છે અને સમુદ્રોની સપાટીમાં ભયજનક હલે વધારો થઈ રહ્યો છે. સમુદ્રકિનારા પર વસેલાં તમામ મોટાં નગરો એક દિવસ સમુદ્રમાં સમાઈ જશે એવો ભય ઊભો થયો છે.

વિકાસને નામે આપણે શહેરીકરણ અને ઔદ્યોગીકરણ પાછળ આંધળી દોટ મૂકી છે. વાહનો, ઉદ્યોગો અને સુખ-સગવડનાં સાધનોને લીધે હવામાં ધુમાડો અને કાર્બનની માત્રા દિવસે-દિવસે વધતી જાય છે. ગેસ, કોલસો, ખનીજ તેલ અને અન્ય ખનીજોના બંધારો ઝડપથી ખાલી થઈ રહ્યા છે. ઉદ્યોગો અને શહેરીના વિકાસ માટે ખેતરો અને જંગલોનો બેકામ ભોગ લેવાઈ રહ્યો છે, એનાથી પ્રાકૃતિક સંતુલન ખોરવાઈ ગયું છે.

પ્રાકૃતિક અસંતુલનને કારણે કતુચક પણ ખોરવાઈ ગયું છે.

ગઘખંડના આધારે નીચે દર્શાવેલા પ્રશ્નોના યોગ્ય ઉત્તરો આપો.

પ્રાકૃતિક અસંતુલનને કારણે ખોરવાઈ રહ્યું છે?

- (1) વ્યાપાર
- (2) શિક્ષણ
- (3) કતુચક
- (4) રીતરિવાજ

Options :

112807118733 1

112807118734 2

112807118735 3

112807118736 4

Question Number : 165 Question Id : 21280729685 Question Type : MCQ Option Skuffling : No Is Question Mandatory : No Calculator : None

Response Time : N.A Think Time : N.A Minimum Instruction Time : 0

Correct Marks : 5 Wrong Marks : 1

Question Key Details :

Key	Value
Comprehension	Comp3

## નીચેનો ગઠખંડ ધ્યાનપૂર્વક વાંચો

પૃથ્વી, જળ, તેજ, વાયુ અને આકાશ - આ પાંચ તત્ત્વો વડે પ્રકૃતિ બનેલી છે. મનુષ્ય અને તેની આસપાસનું સમગ્ર જગત પ્રકૃતિની દેન છે. માનવજીવન પણ મોટા ભાગે પ્રકૃતિ પર આધારિત છે અને પ્રકૃતિને આધીન પણ છે, તેથી મનુષ્ય અને પ્રકૃતિ એકબીજાથી અભિન્ન છે.

આપણું જીવન આદિકાળથી પ્રકૃતિની સાથે વણાયેલું રહ્યું છે. પ્રકૃતિ જીવનભર આપણો સાથ નિભાવે છે. આપણું જીવન સંપૂર્ણપણે પ્રકૃતિ પર નિર્ભર હોવા છતાં આપણે તેની સંભાળ રાખતા નથી. આપણી બેદરકારીને લીધે હવા-પાણી અને અવજનનું પ્રદૂષણ વધી ગયું છે, તેથી પ્રકૃતિનું સંતુલન ખોરવાઈ ગયું છે. આથી ગ્લોબલ વોર્મિંગનું પ્રમાણ સતત વધી રહ્યું છે.

ગ્લોબલ વોર્મિંગના કારણે ધ્રુવપ્રદેશો પરનો બરફ ઝડપથી ઓગળી રહ્યો છે અને સમુદ્રોની સપાટીમાં ભયજનક હલે વધારો થઈ રહ્યો છે. સમુદ્રકિનારા પર વસેલાં તમામ મોટાં નગરો એક દિવસ સમુદ્રમાં સમાઈ જશે એવો ભય ઊભો થયો છે.

વિકાસને નામે આપણે શહેરીકરણ અને ઔદ્યોગીકરણ પાછળ આંધળી દોટ મૂકી છે. વાહનો, ઉદ્યોગો અને સુખ-સગવડનાં સાધનોને લીધે હવામાં ધુમાડો અને કાર્બનની માત્રા દિવસે-દિવસે વધતી જાય છે. ગેસ, કોલસો, ખનીજ તેલ અને અન્ય ખનીજોના બંધારો ઝડપથી ખાલી થઈ રહ્યા છે. ઉદ્યોગો અને શહેરીના વિકાસ માટે ખેતરો અને જંગલોનો બેકામ ભોગ લેવાઈ રહ્યો છે, એનાથી પ્રાકૃતિક સંતુલન ખોરવાઈ ગયું છે.

પ્રાકૃતિક અસંતુલનને કારણે કતુચક પણ ખોરવાઈ ગયું છે.

ગઠખંડના આધારે નીચે દર્શાવેલા પ્રશ્નોના યોગ્ય ઉત્તરો આપો.

નીચેનામાંથી કયો શબ્દ 'પ્રકૃતિ'નો સમાનાર્થી નથી?

- (1) નીતિ
- (2) કુદરત
- (3) નિસર્ગ
- (4) સ્વભાવ

Options :

112807118737 1

112807118738 2

112807118739 3

112807118740 4

Sub-Section Number :

4

Sub-Section Id :

2128072158

Question Shuffling Allowed :

Yes

Is Section Default? :

null

Question Number : 166 Question Id : 21280729636 Question Type : MCQ Option Shuffling : No Is Question Mandatory : No Calculator : None

Response Time : N.A Think Time : N.A Minimum Instruction Time : 0

Correct Marks : 5 Wrong Marks : 1

Question Key Details :

Key	Value
Comprehension	MCQ

બે કે બેથી વધુ પદો ભેગાં મળીને એક એકમ બનાવે તેને શું કહેવાય?

- (1) સમાસ
- (2) સંધિ
- (3) કૃદંત
- (4) વિશેષણ

Options :

112807118741 1

112807118742 2

212507118543 3  
212507118544 4

Question Number : 167 Question Id : 21280729637 Question Type : MCQ Option Shuffling : No Is Question Mandatory : No Calculator : None  
Response Time : N.A Think Time : N.A Minimum Instruction Time : 0

Correct Marks : 5 Wrong Marks : 1

Question Key Details :

Key	Value
Comprehension	MCQ

'એકદશ વર્ગમાં સાથે જાણનાર' - માટે શબ્દસમૂહ આપો.

- (1) ગોઠિયો
- (2) સહાધ્યાયી
- (3) ભેરુ
- (4) બાઇબંધ

Options :

212507118543 1  
212507118544 2  
212507118545 3  
212507118546 4

Question Number : 168 Question Id : 21280729638 Question Type : MCQ Option Shuffling : No Is Question Mandatory : No Calculator : None  
Response Time : N.A Think Time : N.A Minimum Instruction Time : 0

Correct Marks : 5 Wrong Marks : 1

Question Key Details :

Key	Value
Comprehension	MCQ

ત્યારે કોઈ પણ શબ્દસમૂહ મૂળ અર્થ ને બદલે તેના વિશિષ્ટ લાસણિક અર્થમાં વપરાય ત્યારે તેને શું કહેવાય છે?

- (1) કહેવત
- (2) અલંકાર
- (3) રૂઢિપ્રયોગ
- (4) છંદ

Options :

212507118549 1  
212507118550 2  
212507118551 3  
212507118552 4

Question Number : 169 Question Id : 21280729639 Question Type : MCQ Option Shuffling : No Is Question Mandatory : No Calculator : None  
Response Time : N.A Think Time : N.A Minimum Instruction Time : 0

Correct Marks : 5 Wrong Marks : 1

Question Key Details :

Key	Value
Comprehension	MCQ

નીચેનામાંથી કઈ નોડણી સાચી છે?

- (1) અપરીચીત
- (2) અર્હસા
- (3) અગીયારિ
- (4) અચિંતિત

Options :

212507118553 1

212807118554 1  
212807118555 3  
212807118556 4

Question Number : 170 Question Id : 21280729640 Question Type : MCQ Option Shuffling : No Is Question Mandatory : No Calculator : None  
Response Time : N.A Think Time : N.A Minimum Instruction Time : 0

Correct Marks : 5 Wrong Marks : 1

Question Key Details :

Key	Value
Comprehension	MCQ

નીચેનામાંથી કઈ જોડણી સાચી નથી?

- (1) અનુસૂચિ
- (2) આતીથ્ય
- (3) ભિમિ
- (4) ઉપસ્થિત

Options :

212807118557 1  
212807118558 1  
212807118559 3  
212807118560 4

Question Number : 171 Question Id : 21280729641 Question Type : MCQ Option Shuffling : No Is Question Mandatory : No Calculator : None  
Response Time : N.A Think Time : N.A Minimum Instruction Time : 0

Correct Marks : 5 Wrong Marks : 1

Question Key Details :

Key	Value
Comprehension	MCQ

'પુરુષોત્તમ' શબ્દની સંધિ જોડો.

- (1) પુરુષ + ઉત્તમ
- (2) પુરુષ + ત્તમ
- (3) પુરુષ + અત્તમ
- (4) પુરુષો + ત્તમ

Options :

212807118561 1  
212807118562 2  
212807118563 3  
212807118564 4

Question Number : 172 Question Id : 21280729642 Question Type : MCQ Option Shuffling : No Is Question Mandatory : No Calculator : None  
Response Time : N.A Think Time : N.A Minimum Instruction Time : 0

Correct Marks : 5 Wrong Marks : 1

Question Key Details :

Key	Value
Comprehension	MCQ

'ગરબા' કયા કવિના નામે જાણિતો છે?

- (1) પ્રેમનંદ
- (2) મીરાંબાઈ
- (3) વલ્લભ મેવાડો
- (4) સામળ

Options :

212807118565 1  
212807118566 2  
212807118567 3  
212807118568 4

Question Number : 173 Question Id : 21280719643 Question Type : MCQ Option Shuffling : No Is Question Mandatory : No Calculator : None  
Response Time : N.A Think Time : N.A Minimum Instruction Time : 0

Correct Marks : 5 Wrong Marks : 1

Question Key Details :

Key	Value
Comprehension	MCQ

'ભગને બાહવા કૃષ્ણ ગોવાળિયા' - ક્યા કવિની રચના છે?

- (1) મીરાંબાઈ
- (2) સાગળ
- (3) આખો
- (4) નરસિંહ મહેતા

Options :

212807118569 1  
212807118570 2  
212807118571 3  
212807118572 4

Question Number : 174 Question Id : 21280719644 Question Type : MCQ Option Shuffling : No Is Question Mandatory : No Calculator : None  
Response Time : N.A Think Time : N.A Minimum Instruction Time : 0

Correct Marks : 5 Wrong Marks : 1

Question Key Details :

Key	Value
Comprehension	MCQ

'સરસ્વતીચંદ' નવલકથાના લેખકનું નામ જણાવો?

- (1) ગોવર્ધનરામ ત્રિપાઠી
- (2) કનીયાલાલ મુનશી
- (3) ર. વ. દેસાઈ
- (4) ધૂમકેતુ

Options :

212807118573 1  
212807118574 2  
212807118575 3  
212807118576 4

Question Number : 175 Question Id : 21280719645 Question Type : MCQ Option Shuffling : No Is Question Mandatory : No Calculator : None  
Response Time : N.A Think Time : N.A Minimum Instruction Time : 0

Correct Marks : 5 Wrong Marks : 1

Question Key Details :

Key	Value
Comprehension	MCQ

'તરણા બોલો કુંગર રે, કુંગર કોઈ હેએ નાન' રચના ક્યા કવિની છે?

- (1) ઉત્તમ
- (2) બોલો
- (3) ધીરા
- (4) આખો



Options :

- 212807118577 1  
212807118578 2  
212807118579 3  
212807118580 4

Question Number : 176 Question Id : 21280729646 Question Type : MCQ Option Shuffling : No Is Question Mandatory : No Calculator : None  
Response Time : N.A Think Time : N.A Minimum Instruction Time : 0

Correct Marks : 5 Wrong Marks : 1

Question Key Details :

Key	Value
Comprehension	MCQ

'પ્રધાનમંત્રી' કયો સમાસ છે?

- (1) કર્મધારય  
(2) ઉપપદ  
(3) છન્દ  
(4) દ્વિગુ

Options :

- 212807118581 1  
212807118582 2  
212807118583 3  
212807118584 4

Question Number : 177 Question Id : 21280729647 Question Type : MCQ Option Shuffling : No Is Question Mandatory : No Calculator : None  
Response Time : N.A Think Time : N.A Minimum Instruction Time : 0

Correct Marks : 5 Wrong Marks : 1

Question Key Details :

Key	Value
Comprehension	MCQ

'તા' શું છે?

- (1) સમાસ  
(2) નિયાત  
(3) અનુગ  
(4) નામયોગી

Options :

- 212807118585 1  
212807118586 2  
212807118587 3  
212807118588 4

Question Number : 178 Question Id : 21280729645 Question Type : MCQ Option Shuffling : No Is Question Mandatory : No Calculator : None  
Response Time : N.A Think Time : N.A Minimum Instruction Time : 0

Correct Marks : 5 Wrong Marks : 1

Question Key Details :

Key	Value
Comprehension	MCQ

‘મીનારો’ મૂળ કઈ બાષાનો શબ્દ છે?

- (1) દેશ્ય
- (2) લાસંમ
- (3) ફરસી
- (4) અંગ્રેજી

Options :

- 212807118389 1  
212807118390 2  
212807118391 3  
212807118392 4

Question Number : 179 Question Id : 21280719649 Question Type : MCQ Option Shuffling : No Is Question Mandatory : No Calculator : None  
Response Time : N.A Think Time : N.A Minimum Instruction Time : 0

Correct Marks : 5 Wrong Marks : 1

Question Key Details :

Key	Value
Comprehension	MCQ

તીચેનામાંથી કંઠય ખનિ કયા છે

- (1) મ
- (2) લ
- (3) ય
- (4) ઠ

Options :

- 212807118393 1  
212807118394 2  
212807118395 3  
212807118396 4

Question Number : 180 Question Id : 21280719650 Question Type : MCQ Option Shuffling : No Is Question Mandatory : No Calculator : None  
Response Time : N.A Think Time : N.A Minimum Instruction Time : 0

Correct Marks : 5 Wrong Marks : 1

Question Key Details :

Key	Value
Comprehension	MCQ

‘તોડક’ છંદમાં કેટલા અક્ષર છે.

- (1) 17
- (2) 18
- (3) 12
- (4) 21

Options :

- 212807118397 1  
212807118398 2  
212807118399 3  
212807118400 4

Question Number : 181 Question Id : 21280719651 Question Type : MCQ Option Shuffling : No Is Question Mandatory : No Calculator : None  
Response Time : N.A Think Time : N.A Minimum Instruction Time : 0

Correct Marks : 5 Wrong Marks : 1

Question Key Details :

Key	Value
Comprehension	MCQ

'મ, બ, ન, ત, લ, ગા, ઝા' ક્યા છેદનું બંધારણ છે?

- (1) મંદહાંતા
- (2) માલિની
- (3) સ્ત્રીપાઈ
- (4) દોહરા

Options :

- 212807118601 1  
212807118602 2  
212807118603 3  
212807118604 4

Question Number : 182 Question Id : 21280719652 Question Type : MCQ Option Shuffling : No Is Question Mandatory : No Calculator : None  
Response Time : N.A Think Time : N.A Minimum Instruction Time : 0

Correct Marks : 5 Wrong Marks : 1

Question Key Details :

Key	Value
Comprehension	MCQ

'અને' શું છે?

- (1) અનુગ
- (2) સંયોજક
- (3) નામયોગી
- (4) નિધાત

Options :

- 212807118605 1  
212807118606 2  
212807118607 3  
212807118608 4

Question Number : 183 Question Id : 21280719653 Question Type : MCQ Option Shuffling : No Is Question Mandatory : No Calculator : None  
Response Time : N.A Think Time : N.A Minimum Instruction Time : 0

Correct Marks : 5 Wrong Marks : 1

Question Key Details :

Key	Value
Comprehension	MCQ

'જનતા' કઈ સંજ્ઞા છે?

- (1) સમૂહવાચક
- (2) દ્રવ્યવાચક
- (3) ક્રમવાચક
- (4) ભાવવાચક

Options :

- 212807118609 1  
212807118610 2  
212807118611 3  
212807118612 4

Question Number : 184 Question Id : 21280719654 Question Type : MCQ Option Shuffling : No Is Question Mandatory : No Calculator : None  
Response Time : N.A Think Time : N.A Minimum Instruction Time : 0

Correct Marks : 5 Wrong Marks : 1

Question Key Details :

Key	Value
-----	-------

Comprehension	MCQ
---------------	-----

'નજીક' સું છે?

- (1) સર્વનામ
- (2) વિશેષણ
- (3) ક્રિયાવિશેષણ
- (4) દ્રવ્ય પ્રયોગી અલ્કય

Options :

112807113613 1

112807113614 2

112807113615 3

112807113616 4

Question Number : 135 Question Id : 112807129655 Question Type : MCQ Option Shuffling : No Is Question Mandatory : No Calculator : None Response Time : N.A Think Time : N.A Minimum Instruction Time : 0

Correct Marks : 5 Wrong Marks : 1

Question Key Details :

Key	Value
Comprehension	MCQ

'કામિની કોકિલા કેરી ફૂલન કરે' - કયા આલંકારનું દષ્ટાંત છે?

- (1) વર્ણનુપાસ
- (2) ઉપમા
- (3) વ્યંગિત
- (4) વ્યાજ્ઞસ્તુતિ

Options :

112807113617 1

112807113618 2

112807113619 3

112807113620 4

Question Number : 156 Question Id : 112807129656 Question Type : MCQ Option Shuffling : No Is Question Mandatory : No Calculator : None Response Time : N.A Think Time : N.A Minimum Instruction Time : 0

Correct Marks : 5 Wrong Marks : 1

Question Key Details :

Key	Value
Comprehension	MCQ

પદને યોગ્ય ક્રમમાં ગોઠવી અર્થપૂર્ણ વાક્ય બનાવો.

- (A) સ્ટેશન
- (B) સુધી
- (C) શક્તિ નથી
- (D) મારી
- (E) આપવાની

નીચેનામાંથી યોગ્ય વિકલ્પ પસંદ કરો.

- (1) (C), (E), (B), (A), (D)
- (2) (D), (A), (B), (E), (C)
- (3) (A), (B), (C), (D), (E)
- (4) (E), (D), (C), (B), (A)

Options :

212807119621 1

212807119622 2

212807119623 3

212807119624 4

Question Number : 187 Question Id : 21280729657 Question Type : MCQ Option Shuffling : No Is Question Mandatory : No Calculator : None  
Response Time : N.A Think Time : N.A Minimum Instruction Time : 0

Correct Marks : 5 Wrong Marks : 1

Question Key Details :

Key	Value
Comprehension	MCQ

પદને યોગ્ય ક્રમમાં ગોઠવી અર્ધપૂર્ણ વાક્ય બનાવો.

- (A) થાકી ગયા
- (B) પણ
- (C) ફરી ફરીને
- (D) તીર્થસ્થાનોમાં
- (E) અનેક

નીચેનામાંથી યોગ્ય વિકલ્પ પસંદ કરો.

- (1) (C), (D), (E), (A), (B)
- (2) (B), (A), (E), (D), (C)
- (3) (A), (B), (C), (D), (E)
- (4) (E), (D), (C), (B), (A)

Options :

212807119625 1

212807119626 2

212807119627 3

212807119628 4

Question Number : 188 Question Id : 21280729658 Question Type : MCQ Option Shuffling : No Is Question Mandatory : No Calculator : None  
Response Time : N.A Think Time : N.A Minimum Instruction Time : 0

Correct Marks : 5 Wrong Marks : 1

Question Key Details :

Key	Value
Comprehension	MCQ

પદને યોગ્ય ક્રમમાં ગોઠવી અર્થપૂર્ણ વાક્ય બનાવો.

- (A) તેમણે
- (B) હાથોહાથ
- (C) બે મિત્રોને
- (D) સાડુ
- (E) આપ્યા

નીચેનામાંથી યોગ્ય વિકલ્પ પસંદ કરો.

- (1) (A), (B), (C), (D), (E)
- (2) (E), (D), (C), (B), (A)
- (3) (B), (E), (A), (C), (D)
- (4) (D), (C), (A), (E), (B)

Options :

- 212807113829 1
- 212807113830 2
- 212807113831 3
- 212807113832 4

Question Number : 189 Question Id : 21280729659 Question Type : MCQ Option Shuffling : No Is Question Mandatory : No Calculator : None Response Time : N.A Think Time : N.A Minimum Instruction Time : 0

Correct Marks : 5 Wrong Marks : 1

Question Key Details :

Key	Value
Comprehension	h00Q

પદને યોગ્ય ક્રમમાં ગોઠવી અર્થપૂર્ણ વાક્ય બનાવો.

- (A) છે
- (B) ફક્તી
- (C) આંખ
- (D) આંગળીના
- (E) જંગલમાંથી

નીચેનામાંથી યોગ્ય વિકલ્પ પસંદ કરો.

- (1) (A), (B), (C), (D), (E)
- (2) (E), (D), (C), (B), (A)
- (3) (B), (C), (D), (A), (E)
- (4) (E), (A), (D), (C), (B)

Options :

- 212807113833 1
- 212807113834 2
- 212807113835 3
- 212807113836 4

Question Number : 190 Question Id : 21280729660 Question Type : MCQ Option Shuffling : No Is Question Mandatory : No Calculator : None Response Time : N.A Think Time : N.A Minimum Instruction Time : 0

Correct Marks : 5 Wrong Marks : 1

Question Key Details :

Key	Value
-----	-------

પદને યોગ્ય ક્રમમાં ગોઠવી અર્થપૂર્ણ વાક્ય બનાવો.

- (A) રાજ્ય
- (B) શત્રુઓએ
- (C) કરી છે
- (D) પર
- (E) ચડાઈ

નીચેનામાંથી યોગ્ય વિકલ્પ પસંદ કરો.

- (1) (C), (E), (B), (D), (A)
- (2) (A), (B), (C), (D), (E)
- (3) (E), (D), (C), (B), (A)
- (4) (A), (D), (B), (E), (C)

Options :

- 212807118637 1
- 212807118638 2
- 212807118639 3
- 212807118640 4

Question Number : 191 Question Id : 21280719661 Question Type : MCQ Option Shuffling : No Is Question Mandatory : No Calculator : None  
Response Time : N.A Think Time : N.A Minimum Instruction Time : 0

Correct Marks : 5 Wrong Marks : 1

Question Key Details :

Key	Value
Comprehension	MCQ

'કોથ'નો સમાનાર્થી શબ્દ છે.

- (A) ગુસ્સો
- (B) કાંધ
- (C) પ્રેમ
- (D) સ્નેહ

નીચેનામાંથી યોગ્ય વિકલ્પ પસંદ કરો.

- (1) (B) માત્ર
- (2) (C) માત્ર
- (3) (A) માત્ર
- (4) (D) માત્ર

Options :

- 212807118641 1
- 212807118642 2
- 212807118643 3
- 212807118644 4

Question Number : 192 Question Id : 21280719662 Question Type : MCQ Option Shuffling : No Is Question Mandatory : No Calculator : None  
Response Time : N.A Think Time : N.A Minimum Instruction Time : 0

Correct Marks : 5 Wrong Marks : 1

Question Key Details :

Key	Value
-----	-------

'उपयोग'નો સમાનાર્થી શબ્દ નથી.

- (A) ખપ  
(B) ઉપહાર  
(C) ખંતીલું  
(D) ઉન્મેષ

નીચેનામાંથી યોગ્ય વિકલ્પ પસંદ કરો.

- (1) (A) માત્ર  
(2) (A) અને (B) માત્ર  
(3) (A) અને (C) માત્ર  
(4) (B), (C) અને (D) માત્ર

Options :

212807113643 1

212807113644 2

212807113647 3

212807113648 4

Question Number : 193 Question Id : 21280719663 Question Type : MCQ Option Shuffling : No Is Question Mandatory : No Calculator : None  
Response Time : N.A Think Time : N.A Minimum Instruction Time : 0

Correct Marks : 5 Wrong Marks : 1

Question Key Details :

Key	Value
Comprehension	MCQ

'રાત્રી'નો સમાનાર્થી શબ્દ નથી.

- (A) નિશા  
(B) રાત્રની  
(C) રાહ  
(D) કેતુ

નીચેનામાંથી યોગ્ય વિકલ્પ પસંદ કરો.

- (1) (C) અને (D) માત્ર  
(2) (A) અને (B) માત્ર  
(3) (A) માત્ર  
(4) (B) માત્ર

Options :

212807113649 1

212807113650 2

212807113653 3

212807113652 4

Question Number : 194 Question Id : 21280719664 Question Type : MCQ Option Shuffling : No Is Question Mandatory : No Calculator : None  
Response Time : N.A Think Time : N.A Minimum Instruction Time : 0

Correct Marks : 5 Wrong Marks : 1

Question Key Details :

Key	Value
Comprehension	MCQ



'વિયોગ'નો વિરુદ્ધાર્થી શબ્દ છે.

- (A) સંયોગ
- (B) મિલન
- (C) સૂરાપો
- (D) વિરહ

નીચનામાંથી ઓગ્ર વિકલ્પ પસંદ કરો.

- (1) (C) અને (D) માત્ર
- (2) (A) અને (B) માત્ર
- (3) (B) અને (C) માત્ર
- (4) (A) અને (D) માત્ર

Options :

- 212807118653 1
- 212807118654 2
- 212807118655 3
- 212807118656 4

Question Number : 195 Question Id : 21280719665 Question Type : MCQ Option Shuffling : No Is Question Mandatory : No Calculator : None  
Response Time : N.A Think Time : N.A Minimum Instruction Time : 0

Correct Marks : 5 Wrong Marks : 1

Question Key Details :

Key	Value
Comprehension	MCQ

'વામન'નો વિરુદ્ધાર્થી શબ્દ.

- (A) વિરહ
- (B) વામણી
- (C) અસૂર
- (D) ભગવાન

નીચનામાંથી ઓગ્ર વિકલ્પ પસંદ કરો.

- (1) (A) અને (B) માત્ર
- (2) (B) અને (C) માત્ર
- (3) (C) અને (D) માત્ર
- (4) (A) અને (C) માત્ર

Options :

- 212807118657 1
- 212807118658 2
- 212807118659 3
- 212807118660 4

Question Number : 196 Question Id : 21280719666 Question Type : MCQ Option Shuffling : No Is Question Mandatory : No Calculator : None  
Response Time : N.A Think Time : N.A Minimum Instruction Time : 0

Correct Marks : 5 Wrong Marks : 1

Question Key Details :

Key	Value
Comprehension	MCQ

सूची-I ने with सूची-II साथे जोडो.

सूची-I

सूची-II

- |                         |              |
|-------------------------|--------------|
| (A) द्रव्यवाचक संज्ञा   | (I) धी       |
| (B) सम्बुद्धवाचक संज्ञा | (II) दौर्ण्य |
| (C) कतिवाचक संज्ञा      | (III) कुल    |
| (D) व्यक्तिवाचक संज्ञा  | (IV) भारत    |

नीचेनामांघी योग्य विकल्प पसंद करो.

- (1) (A)-(I), (B)-(II), (C)-(III), (D)-(IV)
- (2) (A)-(IV), (B)-(III), (C)-(II), (D)-(I)
- (3) (A)-(II), (B)-(III), (C)-(IV), (D)-(I)
- (4) (A)-(I), (B)-(IV), (C)-(III), (D)-(II)

Options :

112807113661 1

112807113662 2

112807113663 3

112807113664 4

Question Number : 197 Question Id : 21280729667 Question Type : MCQ Option Shuffling : No Is Question Mandatory : No Calculator : None Response Time : N.A Think Time : N.A Minimum Instruction Time : 0

Correct Marks : 5 Wrong Marks : 1

Question Key Details :

Key	Value
Comprehension	h00Q

सूची-I ने with सूची-II साथे जोडो.

सूची-I

सूची-II

- |                        |                                  |
|------------------------|----------------------------------|
| (A) स्ववाचक सर्वनाम    | (I) लेने राम रामे तेने कोई न आभे |
| (B) प्रश्नवाचक सर्वनाम | (II) अर्द्धांधी कोला यपुं ?      |
| (C) सापेक्ष सर्वनाम    | (III) तमे पोते आवणे              |
| (D) पुरुषवाचक सर्वनाम  | (IV) हें अमदावाद जडें छुं        |

नीचेनामांघी योग्य विकल्प पसंद करो.

- (1) (A)-(III), (B)-(II), (C)-(I), (D)-(IV)
- (2) (A)-(I), (B)-(II), (C)-(III), (D)-(IV)
- (3) (A)-(IV), (B)-(III), (C)-(II), (D)-(I)
- (4) (A)-(II), (B)-(IV), (C)-(III), (D)-(I)

Options :

112807113665 1

112807113666 2

112807113667 3

112807113668 4

Question Number : 195 Question Id : 21280729668 Question Type : MCQ Option Shuffling : No Is Question Mandatory : No Calculator : None Response Time : N.A Think Time : N.A Minimum Instruction Time : 0

Correct Marks : 5 Wrong Marks : 1

Question Key Details :

Key	Value
-----	-------

સૂચી-I ને with સૂચી-II સાથે જોડો.

સૂચી-I

સૂચી-II

- |                       |                           |
|-----------------------|---------------------------|
| (A) સંખ્યાવાચક વિશેષણ | (I) ભલી છોકરી             |
| (B) ગુણવાચક વિશેષણ    | (II) કોડી પતંગ            |
| (C) પરિમાણવાચક વિશેષણ | (III) ખ્યાલો દૂધ          |
| (D) પ્રશ્નવાચક વિશેષણ | (IV) કયો માણસ આવ્યો હતો ? |

નીચેનામાંથી યોગ્ય વિકલ્પ પસંદ કરો.

- (1) (A)-(II), (B)-(I), (C)-(III), (D)-(IV)
- (2) (A)-(IV), (B)-(III), (C)-(I), (D)-(II)
- (3) (A)-(I), (B)-(II), (C)-(III), (D)-(IV)
- (4) (A)-(IV), (B)-(III), (C)-(II), (D)-(I)

Options :

212807118669 1

212807118670 2

212807118671 3

212807118672 4

Question Number : 199 Question Id : 21280719669 Question Type : MCQ Option Shuffling : No Is Question Mandatory : No Calculator : None  
Response Time : N.A Think Time : N.A Minimum Instruction Time : 0

Correct Marks : 5 Wrong Marks : 1

Question Key Details :

Key	Value
Comprehension	MCQ

સૂચી-I ને with સૂચી-II સાથે જોડો.

સૂચી-I

સૂચી-II

- |                              |                                   |
|------------------------------|-----------------------------------|
| (A) કાળવાચક ક્રિયા વિશેષણ    | (I) નહે હેકો બેકો છે              |
| (B) ક્રમવાચક ક્રિયા વિશેષણ   | (II) કલ્પેશ વહેલો આવ્યો           |
| (C) સ્થળવાચક ક્રિયા વિશેષણ   | (III) દિલીપ પહેલો આવ્યો           |
| (D) પરિણામવાચક ક્રિયા વિશેષણ | (IV) સ્વીન્દ્રને થોડું વાગ્યું છે |

નીચેનામાંથી યોગ્ય વિકલ્પ પસંદ કરો.

- (1) (A)-(IV), (B)-(I), (C)-(III), (D)-(II)
- (2) (A)-(II), (B)-(III), (C)-(I), (D)-(IV)
- (3) (A)-(I), (B)-(II), (C)-(III), (D)-(IV)
- (4) (A)-(IV), (B)-(III), (C)-(II), (D)-(I)

Options :

212807118673 1

212807118674 2

212807118675 3

212807118676 4

Question Number : 200 Question Id : 21280729670 Question Type : MCQ Option Shuffling : No Is Question Mandatory : No Calculator : None  
Response Time : N.A Think Time : N.A Minimum Instruction Time : 0

Correct Marks : 5 Wrong Marks : 1

Question Key Details :

Key	Value
Comprehension	MCQ

सूची-I ने with सूची-II साथे जोडो.

सूची-I	सूची-II
(A) भूधन्य	(I) छ
(B) कंदय	(II) य
(C) इत्य	(III) भ
(D) तामय्य	(IV) क

नीचेनामोंची योग्य विकल्प पसंद कशे.

- (1) (A)-(I), (B)-(II), (C)-(III), (D)-(IV)
- (2) (A)-(II), (B)-(IV), (C)-(I), (D)-(III)
- (3) (A)-(III), (B)-(I), (C)-(IV), (D)-(II)
- (4) (A)-(IV), (B)-(III), (C)-(II), (D)-(I)

Options :

- 212807118877-1  
212807118878-2  
212807118879-3  
212807118880-4

Group Number :	5
Group Id :	212807644
Group Maximum Duration :	45
Group Minimum Duration :	45
Show Attended Group? :	No
Edit Attended Group? :	No
Break time :	0
Group Marks :	200
Is this Group for Examiner? :	No
Examiner permission :	Can View
Show Progress Bar? :	No

### History

Section Id :	212807732
Section Number :	1
Section type :	Online
Mandatory or Optional :	Mandatory
Number of Questions :	50
Number of Questions to be attempted :	40
Section Marks :	200
Enable Mark as Answered Mark for Review and Clear Response :	Yes
Maximum Instruction Time :	0
Sub-Section Number :	1
Sub-Section Id :	2128072157
Question Shuffling Allowed :	Yes
Is Section Default? :	null

### History

Question Number : 201 Question Id : 21280729796 Question Type : MCQ Option Shuffling : No Is Question Mandatory : No Calculator : None  
Response Time : N.A Think Time : N.A Minimum Instruction Time : 0  
Correct Marks : 5 Wrong Marks : 1  
Question Key Details :

Key	Value
Comprehension	MCQ

The Mesopotamian texts refer to contact with different regions. Which of the following has been identified with the Harappan region ?

- (1) Magan
- (2) Meluhha
- (3) Dilmun
- (4) Anatolia

Options :

- 212807119181 1  
212807119182 2  
212807119183 3  
212807119184 4

Question Number : 201 Question Id : 21280729796 Question Type : MCQ Option Shuffling : No Is Question Mandatory : No Calculator : None Response Time : N.A Think Time : N.A Minimum Instruction Time : 0

Correct Marks : 5 Wrong Marks : 1

Question Key Details :

Key	Value
Comprehension	MCQ

मेसोपोटेमिया के लेख विभिन्न क्षेत्रों से सम्पर्क के विषय में बताते हैं। निम्न में से कौन-सा हड़प्पा क्षेत्र के रूप में पहचान रखता है ?

- (1) मगान
- (2) मेलुहा
- (3) दिलमुन
- (4) एनाटोलिया

Options :

- 212807119181 1  
212807119182 2  
212807119183 3  
212807119184 4

Question Number : 201 Question Id : 21280729796 Question Type : MCQ Option Shuffling : No Is Question Mandatory : No Calculator : None Response Time : N.A Think Time : N.A Minimum Instruction Time : 0

Correct Marks : 5 Wrong Marks : 1

Question Key Details :

Key	Value
Comprehension	MCQ

मेसोपोटेमिया के लेख विभिन्न क्षेत्रों से सम्पर्क के विषय में बताते हैं। निम्न में से कौन-सा हड़प्पा क्षेत्र के रूप में पहचान रखता है ?

- (1) मगान
- (2) मेलुहा
- (3) दिलमुन
- (4) एनाटोलिया

Options :

- 212807119181 1  
212807119182 2  
212807119183 3  
212807119184 4

Question Number : 101 Question Id : 21280719796 Question Type : MCQ Option Shuffling : No Is Question Mandatory : No Calculator : None  
Response Time : N.A Think Time : N.A Minimum Instruction Time : 0

Correct Marks : 5 Wrong Marks : 1

Question Key Details :

Key	Value
Comprehension	MCQ

মেন্সোপটেমিয়া সাহিত্যে বিভিন্ন অঞ্চলের সাথে যোগাযোগের উল্লেখ আছে। নিম্নে উল্লেখিত কোনটিতে হরপ্রাস সাথে যোগাযোগের কথা আছে ?

- (1) মগন
- (2) মেগুহা
- (3) দিল্লি
- (4) আনাতোলিয়া

Options :

- 212807119181 1  
212807119182 1  
212807119183 1  
212807119184 4

Question Number : 101 Question Id : 21280729796 Question Type : MCQ Option Shuffling : No Is Question Mandatory : No Calculator : None  
Response Time : N.A Think Time : N.A Minimum Instruction Time : 0

Correct Marks : 5 Wrong Marks : 1

Question Key Details :

Key	Value
Comprehension	MCQ

মেন্সোপটেমিয়ান সভ্যতায় বৃদ্ধ-বৃদ্ধা প্রদেশে সাধিনা সংরক্ষণ সংক্রমে মণি নীচেনামাংখী কোনে হুসরুখিয়ন প্রদেশ তরুটি অলমামাফামা  
আবে ছে ?

- (1) মগন
- (2) মেহলা
- (3) দীলমন
- (4) মেটোপীয়া

Options :

- 212807119181 1  
212807119182 1  
212807119183 1  
212807119184 4

Question Number : 101 Question Id : 21280719796 Question Type : MCQ Option Shuffling : No Is Question Mandatory : No Calculator : None  
Response Time : N.A Think Time : N.A Minimum Instruction Time : 0

Correct Marks : 5 Wrong Marks : 1

Question Key Details :

Key	Value
Comprehension	MCQ

মুসোলিমীমুসলিম বরফগলু ঐঐঐ প্রদেশগলু সৎসৎসৎ সুলসুলসুল, সৎসৎসৎসৎসৎ, সৎসৎসৎসৎসৎ, সৎসৎসৎসৎসৎ

- (1) মুগল
- (2) মুলুফ
- (3) দিল্লি
- (4) অনাতোলিয়া

Options :

212807119181 1  
212807119182 2  
212807119183 3  
212807119184 4

Question Number : 101 Question Id : 21280729796 Question Type : MCQ Option Shuffling : No Is Question Mandatory : No Calculator : None  
Response Time : N.A Think Time : N.A Minimum Instruction Time : 0

Correct Marks : 5 Wrong Marks : 1

Question Key Details :

Key	Value
Comprehension	MCQ

मेसोपोटेमियन ग्रंथात विविध क्षेत्रांशी संपर्क असल्याचे संदर्भ मिळतात. खालीलपैकी कोणता हडप्पा (शेराचा) संस्कृतीचा उल्लेख मानता येईल ?

- (1) मकान
- (2) मेलुहा
- (3) दिलमून
- (4) अंतोलिया

Options :

212807119181 1  
212807119182 2  
212807119183 3  
212807119184 4

Question Number : 101 Question Id : 21280729796 Question Type : MCQ Option Shuffling : No Is Question Mandatory : No Calculator : None  
Response Time : N.A Think Time : N.A Minimum Instruction Time : 0

Correct Marks : 5 Wrong Marks : 1

Question Key Details :

Key	Value
Comprehension	MCQ

മെസൊപ്പൊട്ടോമിയൻ ഗ്രന്ഥങ്ങളിൽ മറ്റു വിവിധ നീജിയൻസുകാരി ബന്ധം ഉണ്ട് എന്ന് പ്രതിപാദിക്കപ്പെട്ട ഹാരപ്പൻ പ്രദേശം :

- (1) മാഗാൻ
- (2) മെല്യൂഹ
- (3) ഡിൽമൂൻ
- (4) അനറ്റോലിയ

Options :

212807119181 1  
212807119182 2  
212807119183 3  
212807119184 4

Question Number : 101 Question Id : 21280729796 Question Type : MCQ Option Shuffling : No Is Question Mandatory : No Calculator : None  
Response Time : N.A Think Time : N.A Minimum Instruction Time : 0

Correct Marks : 5 Wrong Marks : 1

Question Key Details :

Key	Value
Comprehension	MCQ

மெய்யொருவரின் உயர்வுக்கு உதவியாக ஏதாவது ஒரு செயல்பாடு உண்டா? இதுகுறித்து கீழ்க்கண்ட விவரங்களைக் கவனிக்கவும்.

- (1) மெய்யொருவர்
- (2) மெய்யொருவர்
- (3) மெய்யொருவர்
- (4) மெய்யொருவர்

Options :

- 112807119181 1
- 112807119182 1
- 112807119183 1
- 112807119184 4

Question Number : 201 Question Id : 11280729796 Question Type : MCQ Option Shuffling : No Is Question Mandatory : No Calculator : None Response Time : N.A Think Time : N.A Minimum Instruction Time : 0

Correct Marks : 5 Wrong Marks : 1

Question Key Details :

Key	Value
Comprehension	MCQ

மெய்யொருவரின் உயர்வுக்கு உதவியாக ஏதாவது ஒரு செயல்பாடு உண்டா? இதுகுறித்து கீழ்க்கண்ட விவரங்களைக் கவனிக்கவும்.

- (1) மெய்யொருவர்
- (2) மெய்யொருவர்
- (3) மெய்யொருவர்
- (4) மெய்யொருவர்

Options :

- 112807119181 1
- 112807119182 1
- 112807119183 1
- 112807119184 4

Question Number : 201 Question Id : 11280729796 Question Type : MCQ Option Shuffling : No Is Question Mandatory : No Calculator : None Response Time : N.A Think Time : N.A Minimum Instruction Time : 0

Correct Marks : 5 Wrong Marks : 1

Question Key Details :

Key	Value
Comprehension	MCQ

மெய்யொருவரின் உயர்வுக்கு உதவியாக ஏதாவது ஒரு செயல்பாடு உண்டா? இதுகுறித்து கீழ்க்கண்ட விவரங்களைக் கவனிக்கவும்.

- (1) மெய்யொருவர்
- (2) மெய்யொருவர்
- (3) மெய்யொருவர்
- (4) மெய்யொருவர்

Options :

- 112807119181 1
- 112807119182 1
- 112807119183 1
- 112807119184 4



Question Number : 101 Question Id : 21280719796 Question Type : MCQ Option Shuffling : No Is Question Mandatory : No Calculator : None  
Response Time : N.A Think Time : N.A Minimum Instruction Time : 0

Correct Marks : 5 Wrong Marks : 1

Question Key Details :

Key	Value
Comprehension	MCQ

మొసపటోమెయూ రచనలు వివిధ ప్రాంతాలకు సంబంధించినవి. కింది వాటిలో హరప్పా ప్రాంతానికి చెందిన దానిని గుర్తించండి ?

- (1) మగన్
- (2) మెలుహా
- (3) దిల్మన్
- (4) అనటోలియా

Options :

21280719181 1

21280719182 2

21280719183 3

21280719184 4

Question Number : 101 Question Id : 21280719796 Question Type : MCQ Option Shuffling : No Is Question Mandatory : No Calculator : None  
Response Time : N.A Think Time : N.A Minimum Instruction Time : 0

Correct Marks : 5 Wrong Marks : 1

Question Key Details :

Key	Value
Comprehension	MCQ

میسوپوٹامیا میں تحریر مختلف علاقوں کے ساتھ روابط کا اشارہ کرتی ہے۔

مندرجہ ذیل میں کس کا رابطہ ہڑپا علاقے کے ساتھ تھا، نشاندہی کریں۔

(1) میگن (Magan)

(2) میلوہ (Meluhha)

(3) دلمون (Dilmun)

(4) اناتولیا (Anatolia)

Options :

21280719181 1

21280719182 2

21280719183 3

21280719184 4

Question Number : 102 Question Id : 21280719797 Question Type : MCQ Option Shuffling : No Is Question Mandatory : No Calculator : None  
Response Time : N.A Think Time : N.A Minimum Instruction Time : 0

Correct Marks : 5 Wrong Marks : 1

Question Key Details :

Key	Value
Comprehension	MCQ

The settlement of Chanhudaro was a centre of :

- (1) Craft production
- (2) Agricultural production
- (3) Religious activity
- (4) Political power

Options :

- 212807119185\_1  
212807119186\_2  
212807119187\_3  
212807119188\_4

Question Number : 182 Question Id : 21280729797 Question Type : MCQ Option Shuffling : No Is Question Mandatory : No Calculator : None  
Response Time : N.A Think Time : N.A Minimum Instruction Time : 0

Correct Marks : 5 Wrong Marks : 1

Question Key Details :

Key	Value
Comprehension	MCQ

चन्द्रद्वी बस्ती एक केन्द्र थी :

- (1) शिल्प उत्पादन
- (2) कृषि उत्पादन
- (3) धार्मिक गतिविधियाँ
- (4) राजनैतिक सत्ता

Options :

- 212807119185\_1  
212807119186\_2  
212807119187\_3  
212807119188\_4

Question Number : 182 Question Id : 21280729797 Question Type : MCQ Option Shuffling : No Is Question Mandatory : No Calculator : None  
Response Time : N.A Think Time : N.A Minimum Instruction Time : 0

Correct Marks : 5 Wrong Marks : 1

Question Key Details :

Key	Value
Comprehension	MCQ

চান্দাবো বসতির কেন্দ্রবিন্দু আছিল —

- (1) শিল্প উৎপাদন (Craft production)
- (2) খেতিৰ উৎপাদন (Agricultural production)
- (3) ধাৰ্মিক ক্ৰিয়া (Religious activity)
- (4) ৰাজনৈতিক ক্ষমতা (Political power)

Options :

- 212807119185\_1  
212807119186\_2  
212807119187\_3  
212807119188\_4

Question Number : 182 Question Id : 21280729797 Question Type : MCQ Option Shuffling : No Is Question Mandatory : No Calculator : None  
Response Time : N.A Think Time : N.A Minimum Instruction Time : 0

Correct Marks : 5 Wrong Marks : 1

Question Key Details :

Key	Value
Comprehension	MCQ

ಚಾನಾಜನೋದ್ರೋ ಬಸತಿ ಏಕಡಿ \_\_\_\_\_ ಕೂಪ್ ಡಿಲಿ

- (1) ಬಹು ಉಪಾಧನ
- (2) ಕುಡಿ ಉಪಾಧನ
- (3) ಖನೀಯ ಕಾರ್ಯಕಲಾಪ
- (4) ಬ್ರಾಡುಢೆಢಿಕ್ ಕೂಪ್ತಾ

Options :

- 212807119183 1
- 212807119186 2
- 212807119187 3
- 212807119188 4

Question Number : 102 Question Id : 21280729797 Question Type : MCQ Option Shuffling : No Is Question Mandatory : No Calculator : None  
Response Time : N.A Think Time : N.A Minimum Instruction Time : 0

Correct Marks : 5 Wrong Marks : 1

Question Key Details :

Key	Value
Comprehension	MCQ

ಅನುಷ್ಠಾನೋದ್ರೋ ಬಸತಿ \_\_\_\_\_ ಗು ಕೂಪ್ ಡಿಲಿ :

- (1) ಉಪಾಧನಾ ಉಪಾಧನ
- (2) ಕುಡಿ ಉಪಾಧನ
- (3) ಖನೀಯ ಅನುಷ್ಠಾನೋ
- (4) ರಾಜಕೀಯ ಸಲಾ

Options :

- 212807119183 1
- 212807119186 2
- 212807119187 3
- 212807119188 4

Question Number : 103 Question Id : 21280729797 Question Type : MCQ Option Shuffling : No Is Question Mandatory : No Calculator : None  
Response Time : N.A Think Time : N.A Minimum Instruction Time : 0

Correct Marks : 5 Wrong Marks : 1

Question Key Details :

Key	Value
Comprehension	MCQ

ಪಾಸ್ತುಧಾರೋದ್ರೋ ನೆಲೆಗೋಪುನಿಕೆಯ \_\_\_\_\_ ರ ಒಂದು ಕೋಪ್ತವಾಗುಪು.

- (1) ಹಸ್ತಕೂಶಲಗಲ ಉಪಾಧನ
- (2) ಕುಡಿ ಉಪಾಧನ
- (3) ಧಾರ್ಮಿಕ ಚಟುವಟಿಗಲ
- (4) ಧಾರ್ಮಿಕಯ ಶಕ್ತಿ

Options :

- 212807119183 1
- 212807119186 2
- 212807119187 3
- 212807119188 4

Question Number : 104 Question Id : 21280729797 Question Type : MCQ Option Shuffling : No Is Question Mandatory : No Calculator : None  
Response Time : N.A Think Time : N.A Minimum Instruction Time : 0

Correct Marks : 5 Wrong Marks : 1

Question Key Details :

Key	Value
-----	-------

चन्द्रद्वारो येषील चसाहसत \_\_\_\_\_ याचे केंद्र होते.

- (1) कलाकुसरीच्या वस्तूंची निर्मिती
- (2) शैलीविषयक निर्मिती
- (3) धार्मिक कृती
- (4) राजकीय सत्ता

Options :

- 212807119185 : 1  
212807119186 : 2  
212807119187 : 3  
212807119188 : 4

Question Number : 202 Question Id : 21280729797 Question Type : MCQ Option Shuffling : No Is Question Mandatory : No Calculator : None  
Response Time : N.A Think Time : N.A Minimum Instruction Time : 0

Correct Marks : 5 Wrong Marks : 1

Question Key Details :

Key	Value
Comprehension	MCQ

ചാന്ദ്രതാരം എന്ന വാസസ്ഥലം എന്തിന്റെ കണ്ടുപിടിത്തമായിരുന്നു ?

- (1) കൈ തൊഴിൽ നിർമ്മാണത്തിന്റെ
- (2) കാർഷിക ഉൽപ്പാദനത്തിന്റെ
- (3) മതപരമായ പ്രവർത്തനത്തിന്റെ
- (4) രാഷ്ട്രീയ അധികാരത്തിന്റെ

Options :

- 212807119185 : 1  
212807119186 : 2  
212807119187 : 3  
212807119188 : 4

Question Number : 102 Question Id : 21280729797 Question Type : MCQ Option Shuffling : No Is Question Mandatory : No Calculator : None  
Response Time : N.A Think Time : N.A Minimum Instruction Time : 0

Correct Marks : 5 Wrong Marks : 1

Question Key Details :

Key	Value
Comprehension	MCQ

ബ്രഹ്മദേശം രാജ്യം ഏത് രാജ്യം കേൾ ആണ് ?

- (1) മിഴി രാജ്യം
- (2) കൃഷ്ണ രാജ്യം
- (3) ചാലൂക്യ
- (4) രാമദേശം മിഴി

Options :

- 212807119185 : 1  
212807119186 : 2  
212807119187 : 3  
212807119188 : 4

Question Number : 203 Question Id : 21280729797 Question Type : MCQ Option Shuffling : No Is Question Mandatory : No Calculator : None  
Response Time : N.A Think Time : N.A Minimum Instruction Time : 0

Correct Marks : 5 Wrong Marks : 1

Question Key Details :

Key	Value
Comprehension	MCQ

ಹೆಬ್ಬುಆಸಾರೇ ਕਿಮ ದಾ ಕೆಂತರ ಸಿ?

- (1) ಕರಾಹಿಟ್ ಓತಪಾಸನ
- (2) ಪೆಂಡಿಬಾಜಿ ಓತಪಾಸನ
- (3) ಪಾಠಮಿಖ ಗತೀವಿಪಿಂ
- (4) ಕಾಜನೀತಕ ಸಕತೆ

Options :

- 112807119185 1  
112807119186 2  
112807119187 3  
112807119188 4

Question Number : 203 Question Id : 21280729797 Question Type : MCQ Option Shuffling : No Is Question Mandatory : No Calculator : None  
Response Time : N.A Think Time : N.A Minimum Instruction Time : 0

Correct Marks : 5 Wrong Marks : 1

Question Key Details :

Key	Value
Comprehension	MCQ

ಸಂಜ್ಞುತಾರೋ ಕ್ರುದ್ಧಿಯೆತ್ತರಯ್ ಎತನ್ ಂಮಯಮಾಕ ಂಿಗಾಂಕಿಯತು ?

- (1) ಂಕಂವಿಂಂಣ ಂಪಾಕ್ರುಡ್ಕಂ ಂಠ್ಪಠ್ಠಿ
- (2) ವೆಂಂಣಾಂ ಂಠ್ಪಠ್ಠಿ
- (3) ಸಮಯಂ ಸಾಂಠ್ಠ ಸೆಸಯಲ್ಪಾಡುಕಂ
- (4) ಅರಾಶಿಯಲ್ ಅತಿಕಾರಂ

Options :

- 112807119185 1  
112807119186 2  
112807119187 3  
112807119188 4

Question Number : 203 Question Id : 21280729797 Question Type : MCQ Option Shuffling : No Is Question Mandatory : No Calculator : None  
Response Time : N.A Think Time : N.A Minimum Instruction Time : 0

Correct Marks : 5 Wrong Marks : 1

Question Key Details :

Key	Value
Comprehension	MCQ

ವನಿಪಾಲ್ ಯೆಕ್ಕು ಸ್ವಾಪರಂ ದೆನಿತಿ ಕೆಂದ್ರಂಗಾ ಂದಿ ?

- (1) ವ್ವತ್ತಿ ಂಕ್ಕತ್ತಿ
- (2) ವ್ವವಸಾಯ ಂಕ್ಕತ್ತಿ
- (3) ಮಠ ಕಾರ್ಯಕಲಾಪಿಲು
- (4) ರಾಜಕೀಯ ಅಧಿಕಾರಂ

Options :

- 112807119185 1  
112807119186 2  
112807119187 3  
112807119188 4

Question Number : 191 Question Id : 21280719797 Question Type : MCQ Option Shuffling : No Is Question Mandatory : No Calculator : None Response Time : N.A Think Time : N.A Minimum Instruction Time : 0

Correct Marks : 5 Wrong Marks : 1

Question Key Details :

Key	Value
Comprehension	MCQ

تھنھو دارو (Chanhudaro) کی بستیاں کس کی مرز تھیں؟

- (1) ہنر کی پیدوار
- (2) کاشتکاری کی پیدوار
- (3) مذہبی سرگرمیاں
- (4) سیاسی طاقت

Options :

- 212807119185: 1
- 212807119186: 2
- 212807119187: 3
- 212807119188: 4

Question Number : 204 Question Id : 21280719798 Question Type : MCQ Option Shuffling : No Is Question Mandatory : No Calculator : None Response Time : N.A Think Time : N.A Minimum Instruction Time : 0

Correct Marks : 5 Wrong Marks : 1

Question Key Details :

Key	Value
Comprehension	MCQ

The presence of Harappans in the Khetri region of Rajasthan has been attested by the presence of the following Harappan artefacts :

- (1) Copper
- (2) Shells
- (3) Lapis Lazuli
- (4) Carnelian

Options :

- 212807119189: 1
- 212807119190: 2
- 212807119191: 3
- 212807119192: 4

Question Number : 203 Question Id : 21280719798 Question Type : MCQ Option Shuffling : No Is Question Mandatory : No Calculator : None Response Time : N.A Think Time : N.A Minimum Instruction Time : 0

Correct Marks : 5 Wrong Marks : 1

Question Key Details :

Key	Value
Comprehension	MCQ

हड़प्पा निवासियों को राजस्थान के खेतड़ी क्षेत्र में उपस्थित वहाँ पायी गयी निम्नलिखित हड़प्पा पुरावस्तुओं से प्रमाणित होता है :

- (1) तौबा
- (2) शंख
- (3) लाजवर्द मणि
- (4) कार्नीलियन

Options :

- 212807119189: 1
- 212807119190: 2

212507119191-3  
212507119192-4

Question Number : 203 Question Id : 21250719796 Question Type : MCQ Option Shuffling : No Is Question Mandatory : No Calculator : None  
Response Time : N.A Think Time : N.A Minimum Instruction Time : 0  
Correct Marks : 5 Wrong Marks : 1

Question Key Details :

Key	Value
Comprehension	MCQ

ৰাজস্থানৰ কেন্দ্ৰী অঞ্চলত হৰণাৰ উপস্থিতিৰ প্ৰমাণ তলত দিয়া হৰণাৰ শিদ্ধকৰ্মৰ দ্বাৰা প্ৰমাণিত হৈছে :

- (1) তাম
- (2) খোলা
- (3) লেপিচ লাজুলি
- (4) কানেলিয়ান

Options :

212507119189-1  
212507119190-2  
212507119191-3  
212507119192-4

Question Number : 203 Question Id : 21250719796 Question Type : MCQ Option Shuffling : No Is Question Mandatory : No Calculator : None  
Response Time : N.A Think Time : N.A Minimum Instruction Time : 0  
Correct Marks : 5 Wrong Marks : 1

Question Key Details :

Key	Value
Comprehension	MCQ

ৰাজস্থানৰ কেন্দ্ৰী অঞ্চলে হৰণাবাসীৰে অস্তিত্ব নিম্নলিখিত হস্তশিল্পৰ উপস্থিতি প্ৰমাণ কৰে —

- (1) তাম
- (2) শীল বা খোলস
- (3) লাপিস লাজুলি
- (4) কানেলিয়ান

Options :

212507119189-1  
212507119190-2  
212507119191-3  
212507119192-4

Question Number : 203 Question Id : 21250719796 Question Type : MCQ Option Shuffling : No Is Question Mandatory : No Calculator : None  
Response Time : N.A Think Time : N.A Minimum Instruction Time : 0  
Correct Marks : 5 Wrong Marks : 1

Question Key Details :

Key	Value
Comprehension	MCQ

হাৰস্থানৰ প্ৰেতী প্ৰদেশত হস্তশিল্পীসকলৰ দ্বাৰা নিৰ্মিত হস্তশিল্পৰ কলাকৃতিসকলৰ দ্বাৰা প্ৰমাণিত কৰিবলৈ আবেগিত হৈছে :

- (1) তাম
- (2) শীল
- (3) লাপিস লাজুলি
- (4) কানেলিয়ান

Options :

212507119189 1  
212507119190 2  
212507119191 3  
212507119192 4

Question Number : 103 Question Id : 21250719795 Question Type : MCQ Option Shuffling : No Is Question Mandatory : No Calculator : None  
Response Time : N.A Think Time : N.A Minimum Instruction Time : 0

Correct Marks : 5 Wrong Marks : 1

Question Key Details :

Key	Value
Comprehension	MCQ

ರಾಜಸ್ಥಾನದ ಖೇತ್ರಿ ಪ್ರದೇಶದಲ್ಲಿ ಹರಪ್ಪನ್ಸೂರ ಇರುವಿಕೆಯ ಕೆಳಗಿನ ಮಾನವ ನಿರ್ಮಿತ ವಸ್ತುಗಳ ಇರುವಿಕೆಯಿಂದಾಗಿ ದೃಢೀಕರಿಸಲಾಗಿದೆ :

- (1) ತಾಮ್ರ
- (2) ಚಿಪ್ಪುಗಳು
- (3) ಲಾಜರ್ ಲಾಜುಲಿ
- (4) ಕಾರ್ನೇಲಿಯನ್

Options :

212507119189 1  
212507119190 2  
212507119191 3  
212507119192 4

Question Number : 103 Question Id : 21250719795 Question Type : MCQ Option Shuffling : No Is Question Mandatory : No Calculator : None  
Response Time : N.A Think Time : N.A Minimum Instruction Time : 0

Correct Marks : 5 Wrong Marks : 1

Question Key Details :

Key	Value
Comprehension	MCQ

ರಾಜಸ್ಥಾನ ಮಥಿಲ ಖೇತ್ರಿ ಯೆಥೆ ಹಢಪ್ಪಾ ಸಂಸ್ಕೃತೀಚೆ ಲೋಕ ರಹಾತ ಹೊತೆ ಯಾಚಾ ಪುರಾಣಾ ಮ್ಹಣಜೆ ತಿಥೆ ಸಾಪಡಲೆಲ್ಯಾ \_\_\_\_\_ ಯಾ ಪಾಸುನ್ ಚನಲೆಲ್ಯಾ ಹಢಪ್ಪಾ ಸಂಸ್ಕೃತೀತೀಲ ಕಲಾಕುಸರೀಚ್ಯಾ ವಸ್ತು :

- (1) ತಾಂಚಿ
- (2) ಶಿಂಪಲೆ
- (3) ಲಾಜವರ್ದಿ (ಲಾಪೀಸ ಲಾಜ್ಜುಲಿ)
- (4) ಕಾರ್ನೇಲಿಯನ್

Options :

212507119189 1  
212507119190 2  
212507119191 3  
212507119192 4

Question Number : 103 Question Id : 21250719795 Question Type : MCQ Option Shuffling : No Is Question Mandatory : No Calculator : None  
Response Time : N.A Think Time : N.A Minimum Instruction Time : 0

Correct Marks : 5 Wrong Marks : 1

Question Key Details :

Key	Value
Comprehension	MCQ



രണ്ടുസ്ഥാനത്തിലെ ഭവേന്ദ്രി പ്രദേശത്തിന് ഹാരപ്പയുമായി ബന്ധപ്പെട്ടിരുന്നു എന്ന് അന്യമംഗളിയിരുന്ന് എന്ന് വസ്തുവിന്റെ പേരിലാണ് ?

- (1) ചെമ്പ്
- (2) ചിപ്പികൾ
- (3) ലാപ്പിസസ് ലസൂലി
- (4) കർണിളിയൻ

Options :  
 212807119189 1  
 212807119190 2  
 212807119191 3  
 212807119192 4

Question Number : 203 Question Id : 21280729798 Question Type : MCQ Option Shuffling : No Is Question Mandatory : No Calculator : None  
 Response Time : N.A Think Time : N.A Minimum Instruction Time : 0  
 Correct Marks : 5 Wrong Marks : 1

Question Key Details :

Key	Value
Comprehension	MCQ

ਜਿਹੜੇ ਖੇਤਰ ਸਥਲ ਖੇਤਰਾਂ ਵਿਚ ਪ੍ਰਮੁੱਖਤਾ ਵਿੱਚ ਚਿੱਚਲੂ ਖੇਤਰਾਂ ਵਿਚ ਮੌਸਮੀ ਵਰਖਾ ਪੈਂਦੀ ਹੈ ਉਹਨਾਂ ਵਿਚੋਂ ਕਿਸੇ ਦਾ ਨਾਮ ਕਿਹੜਾ ਹੈ ?

- (1) ਠੰਡ
- (2) ਗੰਗਾ
- (3) ਗੰਗਾ ਨਦੀ ਦੇ ਖੇਤਰ ਵਿਚ
- (4) ਆਰਬਿਕ ਖੇਤਰ

Options :  
 212807119189 1  
 212807119190 2  
 212807119191 3  
 212807119192 4

Question Number : 203 Question Id : 21280729798 Question Type : MCQ Option Shuffling : No Is Question Mandatory : No Calculator : None  
 Response Time : N.A Think Time : N.A Minimum Instruction Time : 0  
 Correct Marks : 5 Wrong Marks : 1

Question Key Details :

Key	Value
Comprehension	MCQ

ਰਾਜਸਥਾਨ ਦੇ ਖੇਤਰੀ ਇਲਾਕੇ ਵਿਚ ਹੜੱਪਾਂ ਦੇ ਲੋਕਾਂ ਦੀ ਮੌਜੂਦਗੀ, ਹੇਠ ਲਿਖਿਆਂ ਹੜੱਪਾਂ ਵਿੱਚੋਂ ਕਿਸ ਦੁਆਰਾ ਨਜਦੀਕੀ ਕੀਤੀ ਜਾਂਦੀ ਹੈ ?

- (1) ਭਾਂਬਾ
- (2) ਖੋਲ/ਖੋਪੇ
- (3) ਲਾਪਿਸ ਲਾਜੂਲੀ ਪੱਥਰ
- (4) ਕਾਰਨੇਲੀਅਮ ਪੱਥਰ

Options :  
 212807119189 1  
 212807119190 2  
 212807119191 3  
 212807119192 4

Question Number : 183 Question Id : 21280729785 Question Type : MCQ Option Shuffling : No Is Question Mandatory : No Calculator : None  
 Response Time : N.A Think Time : N.A Minimum Instruction Time : 0

Correct Marks : 5 Wrong Marks : 1

Question Key Details :

Key	Value
Comprehension	MCQ

ராஜஸ்தான் மாநிலம், கேத்ரி பிராந்தியத்தில் ஹரப்பாவினர் இருந்தனர் என்பதற்கு சான்றாக விளங்கும் ஹரப்பா கலைப் பொருட்கள் எதில் செய்யப்பட்டன ?

- (1) தாமிரம்
- (2) கிளிஞ்சல்கள்
- (3) லாபிஸ் லசூலி
- (4) கார்ணேலியன்

Options :

112807119189 1

112807119190 2

112807119191 3

112807119192 4

Question Number : 103 Question Id : 21280729798 Question Type : MCQ Option Shuffling : No Is Question Mandatory : No Calculator : None  
Response Time : N.A Think Time : N.A Minimum Instruction Time : 0

Correct Marks : 5 Wrong Marks : 1

Question Key Details :

Key	Value
Comprehension	MCQ

ராஸ்தூன் க்ஷேத்ரி ப்ராந்தலில் ஹரப்பியால சநிதீ மீ ஹரப்பு அவசேமொலு த்யூமிக்கரிஞ்சாலு த்ரிந்தி ஹரப்பி க்ஷாஹண்டாலு :

- (1) தாமிரம்
- (2) கெளசலு
- (3) லாபிஸ் லசூலி
- (4) காரனெண்ட ரத்னம்

Options :

112807119189 1

112807119190 2

112807119191 3

112807119192 4

Question Number : 103 Question Id : 21280729798 Question Type : MCQ Option Shuffling : No Is Question Mandatory : No Calculator : None  
Response Time : N.A Think Time : N.A Minimum Instruction Time : 0

Correct Marks : 5 Wrong Marks : 1

Question Key Details :

Key	Value
Comprehension	MCQ

کھتڑی علاقہ راجستھان میں ہرپا کی موجودگی مندرجہ ذیل ہرپا کی مصنوعات کی مصدقہ موجودگی ظاہر کرتی ہے۔

- (1) (Copper) مس
- (2) (Shells) شیل
- (3) ایک نامعلوم کھتڑی (Lapis Lazuli) لاپس لازولی
- (4) (Carnelian) کارنیل

Options :

- 212807119189 1
- 212807119190 2
- 212807119191 3
- 212807119192 4

Question Number : 104 Question Id : 21280729789 Question Type : MCQ Option Shuffling : No Is Question Mandatory : No Calculator : None  
Response Time : N.A Think Time : N.A Minimum Instruction Time : 0

Correct Marks : 5 Wrong Marks : 1

Question Key Details :

Key	Value
Comprehension	MCQ

" It is certainly the most complete ancient system as yet discovered", who made this statement in reference to the drainage system found in Harappan Civilization.

- (1) John Marshall
- (2) M.S. Vats
- (3) Ernest Mackay
- (4) R.E.M. Wheeler

Options :

- 212807119193 1
- 212807119194 2
- 212807119195 3
- 212807119196 4

Question Number : 104 Question Id : 21280729799 Question Type : MCQ Option Shuffling : No Is Question Mandatory : No Calculator : None  
Response Time : N.A Think Time : N.A Minimum Instruction Time : 0

Correct Marks : 5 Wrong Marks : 1

Question Key Details :

Key	Value
Comprehension	MCQ

" यह अब तक खोजी गयी संपूर्ण प्राचीनतम प्रणाली है" हड़प्पा सभ्यता में मिली जल निकास प्रणाली के संदर्भ में यह कथन किसने कहा है ?

- (1) जॉन मार्शल
- (2) एम.एस. वत्स
- (3) एर्नेस्ट मैके
- (4) आर.ई.एम. व्हीलर

Options :

- 212807119193 1
- 212807119194 2
- 212807119195 3
- 212807119196 4

Question Number : 104 Question Id : 21280729799 Question Type : MCQ Option Shuffling : No Is Question Mandatory : No Calculator : None  
Response Time : N.A Think Time : N.A Minimum Instruction Time : 0

Correct Marks : 5 Wrong Marks : 1

Question Key Details :

Key	Value
Comprehension	MCQ

“এইটো নিশ্চিতভাবে এতিয়ালৈকে আৱিষ্কাৰ হোৱা আটাইতকৈ সম্পূৰ্ণ প্ৰাচীন ব্যবস্থা” এই উক্তিৰাল কোনে নানা পদ্ধতি পৰা সত্যতাৰ বিচাৰি উলিওৱাৰ সন্দৰ্ভৰ ওপৰত কৈছিল :

- (1) জন মাৰ্শাল
- (2) এম. এছ. ভাট
- (3) আনেষ্টি মাকেই
- (4) আৰ.ই.এম. হইলাৰ

Options :

- 212807119193 1  
212807119194 2  
212807119195 3  
212807119196 4

Question Number : 204 Question Id : 21280719799 Question Type : MCQ Option Shuffling : No Is Question Mandatory : No Calculator : None  
Response Time : N.A Think Time : N.A Minimum Instruction Time : 0

Correct Marks : 5 Wrong Marks : 1

Question Key Details :

Key	Value
Comprehension	MCQ

“এটি এখনও পর্যন্ত আবিষ্কৃত সৰ্বাপেক্ষা সম্পূৰ্ণ প্ৰাচীন ব্যবস্থা”— ইয়াৰ সত্যতাৰ পৰাঃপ্ৰাৰ্ণী ব্যবস্থা সম্পৰ্কে কে এই উক্তি কৰেছিল :

- (1) জন মাৰ্শাল
- (2) এম. এম. ভাট
- (3) আনেষ্টি মাকেই
- (4) আৰ.ই.এম. হইলাৰ

Options :

- 212807119193 1  
212807119194 2  
212807119195 3  
212807119196 4

Question Number : 204 Question Id : 21280719799 Question Type : MCQ Option Shuffling : No Is Question Mandatory : No Calculator : None  
Response Time : N.A Think Time : N.A Minimum Instruction Time : 0

Correct Marks : 5 Wrong Marks : 1

Question Key Details :

Key	Value
Comprehension	MCQ

“তে অোককত পাত্ৰে অল্ধাৰ সুধীমা শোঘোবেল সৌখী সম্পূৰ্ণ প্ৰাচীন ব্যবস্থা ছে”- হুড্ৰুপা সংস্কৃতিমা শোঘোবেলী গৱৰ ব্যবস্থান্না সঁদৰ্ভমা ক্ৰায়েলু আ বিধান কোৱে কৰ্যু ছে.

- (1) লছোন মাৰ্শাল
- (2) এম. এম. বাল্চ
- (3) অৰ্নেষ্ট মেই
- (4) আৰ.ই.এম. হইলাৰ

Options :

- 212807119193 1  
212807119194 2  
212807119195 3  
212807119196 4

Question Number : 104 Question Id : 21280719799 Question Type : MCQ Option Shuffling : No Is Question Mandatory : No Calculator : None  
Response Time : N.A Think Time : N.A Minimum Instruction Time : 0

Correct Marks : 5 Wrong Marks : 1

Question Key Details :

Key	Value
Comprehension	MCQ

ಇದು ನಿಶ್ಚಿತವಾಗಿ ಇದುವರೆಗೂ ಶೋಧಿಸಿರುವುದಿಲ್ಲ ಅತ್ಯಂತ ಸಂಪೂರ್ಣ ಪ್ರಾಯೋಗಿಕ ವ್ಯವಸ್ಥೆ" ಎಂದು ಹರಿಸ್ಸನ್ ನಾಗರೀಕತೆಯಲ್ಲಿ ಕಂಡುಬಂದ ಚರಂಡಿ ವ್ಯವಸ್ಥೆಯನ್ನು ಸೂಚಿಸಲು ಯಾರು ಈ ಹೇಳಿಕೆಯನ್ನು ನೀಡಿದರು ಯಾರು ?

- (1) ಜಾನ್ ಮಾರ್ಷಲ್
- (2) ಎಂ.ಎಸ್. ವಾಟ್ಸ್
- (3) ಅರ್ನೆಸ್ಟ್ ಮ್ಯಾಕಾಯ್
- (4) ಕೆ.ಇ.ಎಮ್. ಫ್ಲೀಲರ್

Options :

212807119193 1

212807119194 1

212807119195 3

212807119196 4

Question Number : 104 Question Id : 21280719799 Question Type : MCQ Option Shuffling : No Is Question Mandatory : No Calculator : None  
Response Time : N.A Think Time : N.A Minimum Instruction Time : 0

Correct Marks : 5 Wrong Marks : 1

Question Key Details :

Key	Value
Comprehension	MCQ

हडप्पा संस्कृतीत सापडलेल्या सांडपाण्याच्या निःसारणाच्या प्रणाली संदर्भात" ही निश्चितच आजपर्यंत सापडलेली सर्वांत प्राचीन प्रणाली आहे" असे विधान कोणी केले आहे ?

- (1) जॉन मार्लस
- (2) एम.एस. व्हॉट
- (3) अर्नेस्ट मॅकि
- (4) आर.इ.एम. व्हीलर

Options :

212807119193 1

212807119194 1

212807119195 3

212807119196 4

Question Number : 104 Question Id : 21280719799 Question Type : MCQ Option Shuffling : No Is Question Mandatory : No Calculator : None  
Response Time : N.A Think Time : N.A Minimum Instruction Time : 0

Correct Marks : 5 Wrong Marks : 1

Question Key Details :

Key	Value
Comprehension	MCQ

ഹാൻഡ്‌വ്രൈറ്റ്‌ഡ് കോഡുകൾ കണ്ടെത്തിയപ്പോൾ ആരാണ് ഇങ്ങനെ പറഞ്ഞത് ? "തീർച്ചയായും ഇതായിരിക്കും ഇതുവരെ കണ്ടെത്തിയ പൂർണ്ണമായ പുരാതന കണ്ടെത്തൽ"

- (1) ജോൺ മാർഷൽ
- (2) M.S. വാട്ട്സ്
- (3) ഏണസ്റ്റ് മാക്കേ
- (4) R.E.M. വീലർ

Options :

- 212807119193 1
- 212807119194 2
- 212807119195 3
- 212807119196 4

Question Number : 204 Question Id : 21280729789 Question Type : MCQ Option Shuffling : No Is Question Mandatory : No Calculator : None  
Response Time : N.A Think Time : N.A Minimum Instruction Time : 0

Correct Marks : 5 Wrong Marks : 1

Question Key Details :

Key	Value
Comprehension	MCQ

ହରଷା ବନ୍ଧାଗାରେ ମିଳିଥିବା ଜଳ ତିଷାସତ ଚାନ୍ଦଛାକୁ ଚିତ୍ତୁଲିଖୁଚ ମଧରୁ କେଉଁ ବ୍ୟକ୍ତି ଜଣକ “ଏପର୍ଯ୍ୟନ୍ତ ଆଦିଷ୍ଟ ବରୁଠାରୁ ପୁରାତନ ସମ୍ପୂର୍ଣ୍ଣ ବ୍ୟବସ୍ଥା” ।

- (1) ଜନ ମାଗସାଲ
- (2) ଏମ୍.ଏସ୍. ଭାନସ୍
- (3) ଅରନେଷ୍ଟ ମାଲେ
- (4) ଆଇ.ଇ.ଏମ୍. ହୁଇଲର

Options :

- 212807119193 1
- 212807119194 2
- 212807119195 3
- 212807119196 4

Question Number : 204 Question Id : 21280729789 Question Type : MCQ Option Shuffling : No Is Question Mandatory : No Calculator : None  
Response Time : N.A Think Time : N.A Minimum Instruction Time : 0

Correct Marks : 5 Wrong Marks : 1

Question Key Details :

Key	Value
Comprehension	MCQ

ହର୍ଷୋ ମଞ୍ଜିଅତାଂ ବିଚ ଧିମେ ଗପେ ଛରେନ ମିମତମ୍ ଦେ ପୁମ୍ମିଗା ବିଚ କିମ ନେ କିହା ମୀ କିଃ : “ଈହ ନିସଚତ୍ତ୍ୱାପ ବିଚ ଅଞ୍ଜ ଡ଼କ୍ ଦି ଧିମି ଗପି ମଞ୍ଜ ଡ଼େ ପୁରନ ଅଡ଼େ ପୁଞ୍ଚିନ ପୁଞ୍ଚାଲି ହେ” ।

- (1) ସିଂହନ ମାଗସଲ
- (2) ଐମ୍.ଐସ୍. ସିଟସ
- (3) ଅରନିମଟ ମିକେ
- (4) ଆର୍.ଈ.ଐମ୍. ସିଲୁର

Options :

- 212807119193 1
- 212807119194 2
- 212807119195 3
- 212807119196 4

Question Number : 204 Question Id : 21280729789 Question Type : MCQ Option Shuffling : No Is Question Mandatory : No Calculator : None  
Response Time : N.A Think Time : N.A Minimum Instruction Time : 0

Correct Marks : 5 Wrong Marks : 1

Question Key Details :

Key	Value
Comprehension	MCQ

ஹரப்பா நாகரிகத்தில் கண்டெடுக்கப்பட்ட கழிவுநீர் ஓடை முறை குறித்து தனது கூற்றில் "இதுதான் மிகவும் முழுமையான பண்டைக்கால முறை" என்று கூறியவர் யார் ?

- (1) ஜான் மார்ஷல்
- (2) எம்.எஸ். வத்ஸ்
- (3) எர்னஸ்ட் மக்காய்
- (4) ஆர்.ஈ.எம். வீலர்

Options :

- 212807119193 1  
212807119194 2  
212807119195 3  
212807119196 4

Question Number : 204 Question Id : 21280719799 Question Type : MCQ Option Shuffling : No Is Question Mandatory : No Calculator : None  
Response Time : N.A Think Time : N.A Minimum Instruction Time : 0  
Correct Marks : 5 Wrong Marks : 1

Question Key Details :

Key	Value
Comprehension	MCQ

"இடி ஊர்ந்ததால் அதற்குப் பிற்பாடு புராண வடிவ அமைப்புகள் அல்லாமல் கட்டிடக்கலை" என வர்ஷா நாகரிகத்தில் கருத்து மூலம் வடிவம் சூழலில் விடம் வந்தது ?

- (1) ஜான் மார்ஷல்
- (2) எம். எஸ். வத்ஸ்
- (3) எர்னஸ்ட் மக்காய்
- (4) ஆர்.ஈ.எம். வீலர்

Options :

- 212807119193 1  
212807119194 2  
212807119195 3  
212807119196 4

Question Number : 204 Question Id : 21280719799 Question Type : MCQ Option Shuffling : No Is Question Mandatory : No Calculator : None  
Response Time : N.A Think Time : N.A Minimum Instruction Time : 0  
Correct Marks : 5 Wrong Marks : 1

Question Key Details :

Key	Value
Comprehension	MCQ

"இந்தக் கட்டிடக்கலை யில் கட்டிடக்கலை" என வர்ஷா நாகரிகத்தில் கருத்து மூலம் வடிவம் சூழலில் விடம் வந்தது ?

- (1) ஜான் மார்ஷல் (John Marshall)
- (2) எம்.எஸ். வத்ஸ் (M.S. Vats)
- (3) எர்னஸ்ட் மக்காய் (Ernest Mackay)
- (4) ஆர்.ஈ.எம். வீலர் (R.E.M. Wheeler)

Options :

- 212807119193 1

212807119194 1  
212807119195 3  
212807119196 4

Question Number : 105 Question Id : 21280729800 Question Type : MCQ Option Shuffling : No Is Question Mandatory : No Calculator : None  
Response Time : N.A Think Time : N.A Minimum Instruction Time : 0

Correct Marks : 5 Wrong Marks : 1

Question Key Details :

Key	Value
Comprehension	MCQ

Which of the following Harappan site has evidence of fortification of the entire settlement ?

- (1) Mohenjodaro
- (2) Harappa
- (3) Dholavira
- (4) Shortughai

Options :

212807119197 1  
212807119198 1  
212807119199 3  
212807119200 4

Question Number : 105 Question Id : 21280729800 Question Type : MCQ Option Shuffling : No Is Question Mandatory : No Calculator : None  
Response Time : N.A Think Time : N.A Minimum Instruction Time : 0

Correct Marks : 5 Wrong Marks : 1

Question Key Details :

Key	Value
Comprehension	MCQ

निम्न में से कौन-सा हड़प्पा क्षेत्र सम्पूर्ण बस्ती की किलेबंदी का साक्ष्य है ?

- (1) मोहनजोदड़ो
- (2) हड़प्पा
- (3) धौलाधिरा
- (4) शोर्टुघई

Options :

212807119197 1  
212807119198 1  
212807119199 3  
212807119200 4

Question Number : 205 Question Id : 21280729800 Question Type : MCQ Option Shuffling : No Is Question Mandatory : No Calculator : None  
Response Time : N.A Think Time : N.A Minimum Instruction Time : 0

Correct Marks : 5 Wrong Marks : 1

Question Key Details :

Key	Value
Comprehension	MCQ

তলৰ কোনটো স্থানত হৰপ্পাৰ সমগ্ৰ বসতিস্থলটোৰ দুৰ্গ নিৰ্মাণৰ প্ৰমাণ পোৱা লৈছে ?

- (1) মহেঞ্জোদাৰো
- (2) হৰপ্পা
- (3) দৌলাভিৰা
- (4) চৰ্টুঘাই

Options :

212807119197 1



212507119198 1  
212507119199 3  
212507119200 4

Question Number : 105 Question Id : 21250719800 Question Type : MCQ Option Shuffling : No Is Question Mandatory : No Calculator : None  
Response Time : N.A Think Time : N.A Minimum Instruction Time : 0  
Correct Marks : 5 Wrong Marks : 1

Question Key Details :

Key	Value
Comprehension	MCQ

हरभार कोन अक्षरलि सम्पूर्णभावे प्राचीने सुरक्षित हिल ?

- (1) महोद्गोदादे
- (2) हरभार
- (3) बोलालिरी
- (4) शोर्तुधई

Options :

212507119197 1  
212507119198 3  
212507119199 3  
212507119200 4

Question Number : 105 Question Id : 21250719800 Question Type : MCQ Option Shuffling : No Is Question Mandatory : No Calculator : None  
Response Time : N.A Think Time : N.A Minimum Instruction Time : 0

Correct Marks : 5 Wrong Marks : 1

Question Key Details :

Key	Value
Comprehension	MCQ

नीबिनामाधी क्यु हडप्पीवन पुरास्थल समश् असावालनी किलेअधी धरले छे ?

- (1) मोडेनलेडो
- (2) हडप्पा
- (3) धोलावीरा
- (4) सीरतुधई

Options :

212507119197 1  
212507119198 3  
212507119199 3  
212507119200 4

Question Number : 105 Question Id : 21250719800 Question Type : MCQ Option Shuffling : No Is Question Mandatory : No Calculator : None  
Response Time : N.A Think Time : N.A Minimum Instruction Time : 0

Correct Marks : 5 Wrong Marks : 1

Question Key Details :

Key	Value
Comprehension	MCQ

ಕೆಳಗಿನ ಯಾವ ಹರಪ್ಪನ್ದರ ತಾರಾಪು ಸಂಪೂರ್ಣ ನೆಲೆಗೊಳ್ಳುವಿಕೆಯ ಕೋಟೆ ನಿರ್ಮಾಣದ ಸಾಕ್ಷಿಯನ್ನು ಹೊಂದಿದೆ ?

- (1) ವೋಹಂಪೋದಾರೋ
- (2) ಹರಪ್ಪ
- (3) ದೋಲವಿರ
- (4) ಶೋರ್ತುಧಾಯ್

Options :

212807119197 1  
212807119198 2  
212807119199 3  
212807119200 4

Question Number : 105 Question Id : 21280719800 Question Type : MCQ Option Shuffling : No Is Question Mandatory : No Calculator : None  
Response Time : N.A Think Time : N.A Minimum Instruction Time : 0

Correct Marks : 5 Wrong Marks : 1

Question Key Details :

Key	Value
Comprehension	MCQ

संपूर्ण वसाहतीसभोवती संरक्षक भिंती असल्याचे पुरावे कोणत्या हळ्या संस्कृतीतील स्पष्टावर आढळतात?

- (1) मोहेंजोदरो
- (2) हळ्या
- (3) धोलावीरा
- (4) शोतुभाय

Options :

212807119197 1  
212807119198 2  
212807119199 3  
212807119200 4

Question Number : 105 Question Id : 21280719800 Question Type : MCQ Option Shuffling : No Is Question Mandatory : No Calculator : None  
Response Time : N.A Think Time : N.A Minimum Instruction Time : 0

Correct Marks : 5 Wrong Marks : 1

Question Key Details :

Key	Value
Comprehension	MCQ

ഏത് ഹാരപ്പൻ സൈറ്റിലാണ് കൃഷുവൻ പ്രദേശത്തെയും ഉൾക്കൊള്ളുന്ന കോട്ടയുടെ അവശേഷിപ്പുകൾ ഉള്ളത് ?

- (1) കോഹൻജ ദാരോ
- (2) ഹാരപ്പ
- (3) ഡോലവീര
- (4) സോർത്തുകറായ്

Options :

212807119197 1  
212807119198 2  
212807119199 3  
212807119200 4

Question Number : 105 Question Id : 21280719800 Question Type : MCQ Option Shuffling : No Is Question Mandatory : No Calculator : None  
Response Time : N.A Think Time : N.A Minimum Instruction Time : 0

Correct Marks : 5 Wrong Marks : 1

Question Key Details :

Key	Value
Comprehension	MCQ

ନିମ୍ନଲିଖିତ ମଧ୍ୟରୁ କେଉଁ ସାମଗ୍ରୀ ହରଷା ସଂଲଗ୍ନର ଦୁର୍ଗ ପ୍ରାଚୀର ସମସ୍ତ ଉପରିରେ ଥିବା ସୋଲି ଜଣାପଡ଼େ ?

- (1) ନରେଞ୍ଜୋରାରେ
- (2) ନରସା
- (3) ଦୋଲାନିରା
- (4) ସରକୁଗାଳ

Options :

- 212807119197 1  
212807119198 2  
212807119199 3  
212807119200 4

Question Number : 205 Question Id : 21280719800 Question Type : MCQ Option Shuffling : No Is Question Mandatory : No Calculator : None  
Response Time : N.A Think Time : N.A Minimum Instruction Time : 0

Correct Marks : 5 Wrong Marks : 1

Question Key Details :

Key	Value
Comprehension	MCQ

ਹੇਠ ਲਿਖਿਆਂ ਵਿਚੋਂ ਕਿਹੜਾ ਹੜੱਪਾ ਦਾ ਸਥਾਨ ਕਿਲੇ ਦੀ ਮਜ਼ਬੂਤੀ ਦਾ ਸਬੂਤ ਹੈ ?

- (1) ਮੋਹਿਨਜੋਦାରੋ
- (2) ਹੜੱਪਾ
- (3) ਚੋਲਾਵੀਰਾ
- (4) ਸ਼ਿਰਜੁਖਈ

Options :

- 212807119197 1  
212807119198 2  
212807119199 3  
212807119200 4

Question Number : 205 Question Id : 21280719800 Question Type : MCQ Option Shuffling : No Is Question Mandatory : No Calculator : None  
Response Time : N.A Think Time : N.A Minimum Instruction Time : 0

Correct Marks : 5 Wrong Marks : 1

Question Key Details :

Key	Value
Comprehension	MCQ

ଶିଳ୍ପକାଳ୍ପନା ଉତ୍ତରାଧିକାରୀ ନାକୀକାଳିନୀ, ଓଡ଼ିଶାରେ ଥିବା ଗୁରୁତ୍ଵପୂର୍ଣ୍ଣ କାମର ଅନୁଷ୍ଠାନ କାହାଙ୍କ ଦ୍ଵାରା ଆରମ୍ଭ କରାଯାଇଥିଲା ?

- (1) ଗୋବିନ୍ଦଚନ୍ଦ୍ରାଚାର୍ଯ୍ୟ
- (2) ଉତ୍ତରାଧିକାରୀ
- (3) ଡୋଲାନିରା
- (4) ଡାକ୍ତର ଡାକ୍ତରୀ

Options :

- 212807119197 1  
212807119198 2  
212807119199 3  
212807119200 4

Question Number : 205 Question Id : 21280719800 Question Type : MCQ Option Shuffling : No Is Question Mandatory : No Calculator : None  
Response Time : N.A Think Time : N.A Minimum Instruction Time : 0

Correct Marks : 5 Wrong Marks : 1

Question Key Details :

Key	Value
Comprehension	MCQ

క్రింది హరప్పా సైట్‌లలో ఏది మొత్తం పరిస్థాపకమును పటిష్ఠ పరిచినట్లు రుజువు కలిగి ఉంది ?

- (1) మెహన్జోదారో
- (2) హరప్పా
- (3) డోలవీర
- (4) షోర్తుఖాయి

Options :

212507119197 1  
212507119198 2  
212507119199 3  
212507119200 4

Question Number : 195 Question Id : 21250719800 Question Type : MCQ Option Shuffling : No Is Question Mandatory : No Calculator : None  
Response Time : N.A Think Time : N.A Minimum Instruction Time : 0

Correct Marks : 5 Wrong Marks : 1

Question Key Details :

Key	Value
Comprehension	MCQ

مندرجہ ذیل میں کون سی ہڑپائی سائٹ (Site) مکمل قلعہ بند ہستی کی شہادت ہے۔

- (1) موہنجودارو (Mohenjodaro)
- (2) ہڑپا (Harappa)
- (3) دھولاویرا (Dholavira)
- (4) شرٹوگھائی (Shortughai)

Options :

212507119197 1  
212507119198 2  
212507119199 3  
212507119200 4

Question Number : 196 Question Id : 21250729801 Question Type : MCQ Option Shuffling : No Is Question Mandatory : No Calculator : None  
Response Time : N.A Think Time : N.A Minimum Instruction Time : 0

Correct Marks : 5 Wrong Marks : 1

Question Key Details :

Key	Value
Comprehension	MCQ

The script used to write modern Indian languages is derived from \_\_\_\_\_.

- (1) Kharosthi
- (2) Brahmi
- (3) Devanagari
- (4) Aramaic

Options :

212507119201 1  
212507119202 2  
212507119203 3

212507119204\_4

Question Number : 206 Question Id : 21280719801 Question Type : MCQ Option Shuffling : No Is Question Mandatory : No Calculator : None  
Response Time : N.A Think Time : N.A Minimum Instruction Time : 0  
Correct Marks : 5 Wrong Marks : 1

Question Key Details :

Key	Value
Comprehension	MCQ

आधुनिक भारतीय भाषाओं को लिखने की लिए \_\_\_\_\_ से ली गयी है।

- (1) खरोष्ठी
- (2) ब्राह्मी
- (3) देवनागरी
- (4) अरामेइक

Options :

212807119201\_1  
212807119202\_2  
212507119203\_3  
212807119204\_4

Question Number : 206 Question Id : 21280719801 Question Type : MCQ Option Shuffling : No Is Question Mandatory : No Calculator : None  
Response Time : N.A Think Time : N.A Minimum Instruction Time : 0

Correct Marks : 5 Wrong Marks : 1

Question Key Details :

Key	Value
Comprehension	MCQ

आधुनिक भारतीय भाषा लिखने के लिए कौन सी लिपि का उपयोग किया गया है —

- (1) खरोष्ठी
- (2) ब्राह्मी
- (3) देवनागरी
- (4) अरामेइक

Options :

212807119201\_1  
212807119202\_2  
212807119203\_3  
212507119204\_4

Question Number : 206 Question Id : 21280719801 Question Type : MCQ Option Shuffling : No Is Question Mandatory : No Calculator : None  
Response Time : N.A Think Time : N.A Minimum Instruction Time : 0

Correct Marks : 5 Wrong Marks : 1

Question Key Details :

Key	Value
Comprehension	MCQ

आधुनिक भारतीय भाषाओं में लिखने के लिए कौन सी लिपि का उपयोग किया गया है —

- (1) खरोष्ठी
- (2) ब्राह्मी
- (3) देवनागरी
- (4) अरामेइक

Options :

212807119201\_1

212507119202 2  
212507119203 3  
212507119204 4

Question Number : 106 Question Id : 21250729801 Question Type : MCQ Option Shuffling : No Is Question Mandatory : No Calculator : None  
Response Time : N.A Think Time : N.A Minimum Instruction Time : 0

Correct Marks : 5 Wrong Marks : 1

Question Key Details :

Key	Value
Comprehension	MCQ

आधुनिक भारतीय भाषाओंनी लिपि \_\_\_\_\_ भांडी उतरती आवी छै :

- (1) अरोळी
- (2) ब्राह्मी
- (3) देवनागरी
- (4) अरेभेईक

Options :

212507119201 1  
212507119202 2  
212507119203 3  
212507119204 4

Question Number : 106 Question Id : 21250729801 Question Type : MCQ Option Shuffling : No Is Question Mandatory : No Calculator : None  
Response Time : N.A Think Time : N.A Minimum Instruction Time : 0

Correct Marks : 5 Wrong Marks : 1

Question Key Details :

Key	Value
Comprehension	MCQ

आधुनिक धारकीय भाषांनू बरैयल बरसिद लिपयनू खरैदु छै मूलतः \_\_\_\_\_ :

- (1) ब्राह्मी
- (2) द्रावी
- (3) देवनागरी
- (4) अरेभेईक

Options :

212507119201 1  
212507119202 2  
212507119203 3  
212507119204 4

Question Number : 108 Question Id : 21250729801 Question Type : MCQ Option Shuffling : No Is Question Mandatory : No Calculator : None  
Response Time : N.A Think Time : N.A Minimum Instruction Time : 0

Correct Marks : 5 Wrong Marks : 1

Question Key Details :

Key	Value
Comprehension	MCQ

आधुनिक भारतीय भाषांच्या लिखणामध्ये वापरली जाणारी लिपी \_\_\_\_\_ या लिपीपासून विकसित झाली आहे.

- (1) खरोष्ठी
- (2) ब्राह्मी
- (3) देवनागरी
- (4) अरेमाईक

Options :

212807119201:1  
212807119202:3  
212807119203:3  
212807119204:4

Question Number : 106 Question Id : 21280719801 Question Type : MCQ Option Shuffling : No Is Question Mandatory : No Calculator : None  
Response Time : N.A Think Time : N.A Minimum Instruction Time : 0  
Correct Marks : 5 Wrong Marks : 1

Question Key Details :

Key	Value
Comprehension	MCQ

ഇന്ത്യയിലെ നവീന ഭാഷകളുടെ ലിപികൾ ഏത് ഭാഷയിൽ നിന്നാണ് ?

- (1) ഖരോഷ്ടി
- (2) ബ്രഹ്മി
- (3) ദേവനാഗരി
- (4) അനന്തരീക

Options :

212807119201:1  
212807119202:1  
212807119203:3  
212807119204:4

Question Number : 106 Question Id : 21280719801 Question Type : MCQ Option Shuffling : No Is Question Mandatory : No Calculator : None  
Response Time : N.A Think Time : N.A Minimum Instruction Time : 0

Correct Marks : 5 Wrong Marks : 1

Question Key Details :

Key	Value
Comprehension	MCQ

ചാലൂക്യ ഭാരതം മറ്റു റിഗ്വേഡ് കേൾ വിവിധ അനേക ഭാഷകളിൽ :

- (1) ഉറുദു
- (2) ഉറുദു
- (3) ദേവനാഗരി
- (4) ചാലൂക്യ

Options :

212807119201:1  
212807119202:1  
212807119203:3  
212807119204:4

Question Number : 106 Question Id : 21280719801 Question Type : MCQ Option Shuffling : No Is Question Mandatory : No Calculator : None  
Response Time : N.A Think Time : N.A Minimum Instruction Time : 0

Correct Marks : 5 Wrong Marks : 1

Question Key Details :

Key	Value
Comprehension	MCQ

ਆਧੁਨਿਕ ਭਾਰਤੀ ਭਾਸ਼ਾਵਾਂ ਲਈ ਵਰਤੀ ਜਾਂਦੀ ਲਿੱਪੀ ਨਿਕਲੀ ਹੈ :

- (1) ਖਰੋਸ਼ਟੀ ਵਿੱਚੋਂ
- (2) ਬ੍ਰਹਮੀ ਵਿੱਚੋਂ
- (3) ਦੇਵਨਾਗਰੀ ਵਿੱਚੋਂ
- (4) ਅਰੰਮਿਕ ਵਿੱਚੋਂ

Options :

- 212807119201 1
- 212807119202 2
- 212807119203 3
- 212807119204 4

Question Number : 106 Question Id : 21280719801 Question Type : MCQ Option Shuffling : No Is Question Mandatory : No Calculator : None  
Response Time : N.A Think Time : N.A Minimum Instruction Time : 0

Correct Marks : 5 Wrong Marks : 1

Question Key Details :

Key	Value
Comprehension	MCQ

ਨਵੀਂ ਤੋਂ ਉੱਠੀਆਂ ਗਈਆਂ ਆਧੁਨਿਕ ਭਾਸ਼ਾਵਾਂ ਲਈ ਵਰਤੀ ਜਾਂਦੀ ਲਿੱਪੀ ਨਿਕਲੀ ਹੈ ?

- (1) ਖਰੋਸ਼ਟੀ
- (2) ਬ੍ਰਹਮੀ
- (3) ਦੇਵਨਾਗਰੀ
- (4) ਅਰੰਮਿਕ

Options :

- 212807119201 1
- 212807119202 2
- 212807119203 3
- 212807119204 4

Question Number : 106 Question Id : 21280719801 Question Type : MCQ Option Shuffling : No Is Question Mandatory : No Calculator : None  
Response Time : N.A Think Time : N.A Minimum Instruction Time : 0

Correct Marks : 5 Wrong Marks : 1

Question Key Details :

Key	Value
Comprehension	MCQ

ਆਧੁਨਿਕ ਭਾਰਤੀ ਭਾਸ਼ਾਵਾਂ ਲਈ ਵਰਤੀ ਜਾਂਦੀ ਲਿੱਪੀ ਨਿਕਲੀ ਹੈ :

- (1) ਖਰੋਸ਼ਟੀ
- (2) ਬ੍ਰਹਮੀ
- (3) ਦੇਵਨਾਗਰੀ
- (4) ਅਰੰਮਿਕ

Options :

- 212807119201 1
- 212807119202 2
- 212807119203 3
- 212807119204 4



Question Number : 195 Question Id : 21280719501 Question Type : MCQ Option Shuffling : No Is Question Mandatory : No Calculator : None  
Response Time : N.A Think Time : N.A Minimum Instruction Time : 0

Correct Marks : 5 Wrong Marks : 1

Question Key Details :

Key	Value
Comprehension	MCQ

جدید ہندوستانی زبانوں کے لکھنے کے استعمال کے لئے رسم الخط (script) کس سے اخذ کیا گیا

(1) کھرہتی (Kharosthi)

(2) براہمی (Brahmi)

(3) دیوناگری (Devanagari)

(4) ارامائی (Aramaic)

Options :

212807119201 : 1

212807119202 : 1

212807119203 : 3

212807119204 : 4

Question Number : 197 Question Id : 21280719502 Question Type : MCQ Option Shuffling : No Is Question Mandatory : No Calculator : None  
Response Time : N.A Think Time : N.A Minimum Instruction Time : 0

Correct Marks : 5 Wrong Marks : 1

Question Key Details :

Key	Value
Comprehension	MCQ

Who deciphered the Brahmi and Kharosthi scripts used in the earliest inscriptions and coins ?

(1) Colin Mackenzie

(2) James Prinsep

(3) Alexander Cunningham

(4) D.C. Sircar

Options :

212807119205 : 1

212807119206 : 1

212807119207 : 3

212807119208 : 4

Question Number : 207 Question Id : 21280719503 Question Type : MCQ Option Shuffling : No Is Question Mandatory : No Calculator : None  
Response Time : N.A Think Time : N.A Minimum Instruction Time : 0

Correct Marks : 5 Wrong Marks : 1

Question Key Details :

Key	Value
Comprehension	MCQ

प्राचीन अभिलेखों एवं सिक्कों पर लिखी ब्राह्मी और खरोष्ठी लिपियों का किसने अर्थ निकाला ?

(1) कोलिन मैकेन्जी

(2) जेम्स प्रिंसेप

(3) अलेक्जेंडर कनिंघम

(4) डी.सी. सरकार

Options :

212807119205 : 1

212807119206 : 2

212807119207 : 3

212507119203\_4

Question Number : 107 Question Id : 21250719802 Question Type : MCQ Option Shuffling : No Is Question Mandatory : No Calculator : None  
Response Time : N.A Think Time : N.A Minimum Instruction Time : 0

Correct Marks : 5 Wrong Marks : 1

Question Key Details :

Key	Value
Comprehension	MCQ

কোনো আদিম শিলালিপি আৰু মূদ্রাত ব্রাহ্মী আৰু খৰোষ্ঠী লিপিত ব্যাখ্যা কৰিছিল :

- (1) ক'লিন মেকেঞ্জী
- (2) জেমচ প্ৰিন্সেপ
- (3) আলেকজেন্ডাৰ কানিংহাম
- (4) জি. চি. চিক্কাৰ

Options :

212507119203\_1

212507119203\_2

212507119203\_3

212507119203\_4

Question Number : 107 Question Id : 21250719802 Question Type : MCQ Option Shuffling : No Is Question Mandatory : No Calculator : None  
Response Time : N.A Think Time : N.A Minimum Instruction Time : 0

Correct Marks : 5 Wrong Marks : 1

Question Key Details :

Key	Value
Comprehension	MCQ

আদি লেখ ও মূদ্রায় ব্যবহৃত ব্রাহ্মী ও খৰোষ্ঠী লিপির পাতোদ্ধার কে কৰেছিল :

- (1) ক'লিন মাকেঞ্জি
- (2) জেমস প্ৰিন্সেপ
- (3) আলেকজেন্ডাৰ কানিংহাম
- (4) জি. সি. সত্ৰকাৰ

Options :

212507119203\_1

212507119203\_2

212507119203\_3

212507119203\_4

Question Number : 107 Question Id : 21250719802 Question Type : MCQ Option Shuffling : No Is Question Mandatory : No Calculator : None  
Response Time : N.A Think Time : N.A Minimum Instruction Time : 0

Correct Marks : 5 Wrong Marks : 1

Question Key Details :

Key	Value
Comprehension	MCQ

আইৰীক অমিলেখো আৰু সিদ্ধান্তোনা ব্যৱহৃত ব্ৰাহ্মী আৰু খৰোষ্ঠী লিপিতোনে নীচেনামাংখী কোলেটিকলী হ'লী ?

- (1) ক'লেটিকলী
- (2) লেন্স প্ৰিন্সেপ
- (3) আলেকজেন্ডাৰ কানিংহাম
- (4) ডি. সি. সীত্কাৰ

Options :

212507119203\_1

212807119205 : 1  
212807119207 : 3  
212807119208 : 4

Question Number : 207 Question Id : 21280729802 Question Type : MCQ Option Shuffling : No Is Question Mandatory : No Calculator : None  
Response Time : N.A Think Time : N.A Minimum Instruction Time : 0  
Correct Marks : 5 Wrong Marks : 1

Question Key Details :

Key	Value
Comprehension	MCQ

ಹಿಂದಿನ ಶಾಸನಗಳು ಮತ್ತು ನಾಣ್ಯಗಳಲ್ಲಿ ಬಳಸಿದ ಟ್ರಾಟ್ ಮತ್ತು ಪಾರೋಕ್ತಿ ಬರಹಗಳನ್ನು ಯಾರು ಓದಿ ಹೇಳಿದರು ?

- (1) ಕೋಲಿನ್ ಮ್ಯಾಕೊಂಬೆ
- (2) ಜೇಮ್ಸ್ ಪ್ರೆಸ್ಟೆಕ್
- (3) ಆಲ್ಫ್ರೆಡ್ ಜಾನ್ ಕ್ಸೆನ್ಸಲ್ಡಾನ್
- (4) ಡಿ.ಸಿ.ಸರ್ಕಾರ್

Options :

212807119205 : 1  
212807119206 : 2  
212807119207 : 3  
212807119208 : 4

Question Number : 207 Question Id : 21280729802 Question Type : MCQ Option Shuffling : No Is Question Mandatory : No Calculator : None  
Response Time : N.A Think Time : N.A Minimum Instruction Time : 0  
Correct Marks : 5 Wrong Marks : 1

Question Key Details :

Key	Value
Comprehension	MCQ

ಅಗದಿ ಸುತ್ತಲಿರುವ ನಾಣಿ ಮತ್ತು ಲೇಖನವಿಲ್ಲದ ಬ್ರಾಹ್ಮಿ ಮತ್ತು ಸುರೇಷ್ಠಿ ಯಾ ಲೇಖನವು ಯಾವ ಕೌಶಲಿಯಿಂದ ಬರೆದಿದೆ ?

- (1) ಕಾಲೋನಿ ಮೆಟ್ರಿಕ್ಸ್
- (2) ಜೇಮ್ಸ್ ಪ್ರೆಸ್ಟೆಕ್
- (3) ಅಲೆಕ್ಸಾಂಡರ್ ಕನಿಂಗ್ಹ್ಯಾಂ ಡಿ.ಸಿ. ಸರ್ಕಾರ
- (4) ಡಿ.ಸಿ. ಸರ್ಕಾರ

Options :

212807119205 : 1  
212807119206 : 2  
212807119207 : 3  
212807119208 : 4

Question Number : 207 Question Id : 21280729802 Question Type : MCQ Option Shuffling : No Is Question Mandatory : No Calculator : None  
Response Time : N.A Think Time : N.A Minimum Instruction Time : 0  
Correct Marks : 5 Wrong Marks : 1

Question Key Details :

Key	Value
Comprehension	MCQ

ಇದು ಯಾವ ಲೇಖನವನ್ನು ಉಲ್ಲೇಖಿಸುತ್ತದೆ ?

- (1) ಕೊಲ್ಲಿನ ಮಂಕಾಣಿ
- (2) ಐಯಿಂಗ್ ಪ್ರಿನ್ಸಿಪಲ್ಸ್
- (3) ಲೇಖನವು ಯಾವ ಲೇಖನವನ್ನು ಉಲ್ಲೇಖಿಸುತ್ತದೆ ?
- (4) D.C. ಸರ್ಕಾರ

Options :

- 212807119205 1
- 212807119206 2
- 212807119207 3
- 212807119208 4

Question Number : 207 Question Id : 21280729802 Question Type : MCQ Option Shuffling : No Is Question Mandatory : No Calculator : None  
Response Time : N.A Think Time : N.A Minimum Instruction Time : 0

Correct Marks : 5 Wrong Marks : 1

Question Key Details :

Key	Value
Comprehension	MCQ

ନିମ୍ନଲିଖିତ ମଧ୍ୟରୁ କେଉଁ ଦ୍ୟୁତି ଜନିତ ପ୍ରାକୃତିକ ଶକ୍ତିକାଣ୍ଡିଏ ଏବଂ ମୁହାଁରୁ ବାହାରିବା ଏବଂ ଖରୋଣ୍ଡି ଗୁପ୍ତ ସାନ୍ଦେହିତ ଉତ୍ପାଦକୁ ବୋଧାଗମ୍ୟ ଭାଷାରେ ପରିଣତ କରିଥିଲେ ?

- (1) ଭୋଲିନ ମ୍ୟାଗେନେଟି
- (2) କେନ୍ଦ୍ର ପ୍ରଜ୍ଵଳଣ
- (3) ଆଲୋକକାଣ୍ଡର ଦୁର୍ବଳ ଗମନ
- (4) ବି.ସି. ପିକାଜର

Options :

- 212807119205 1
- 212807119206 2
- 212807119207 3
- 212807119208 4

Question Number : 207 Question Id : 21280729802 Question Type : MCQ Option Shuffling : No Is Question Mandatory : No Calculator : None  
Response Time : N.A Think Time : N.A Minimum Instruction Time : 0

Correct Marks : 5 Wrong Marks : 1

Question Key Details :

Key	Value
Comprehension	MCQ

କିମନେ ଦାਅଦା କିତା ମୀ କି ପହିଲାଂ ଚଚନାଦାଂ ଅଡ଼େ ମିଂକିଆଂ ତେ ସୁହମୀ ଅଡ଼େ ଖରୋଣ୍ଡି ଲିଂଧୀ ବରତୀ ନାଂଦି ମୀ?

- (1) କିଲିନ ମିକନିଜ
- (2) ନିମସ ପରିମିଧ
- (3) ଅଲିକନିଡ଼ର କନିଧମ
- (4) ଡି.ମି. ମିରକାର

Options :

- 212807119205 1
- 212807119206 2
- 212807119207 3
- 212807119208 4

Question Number : 207 Question Id : 21280729802 Question Type : MCQ Option Shuffling : No Is Question Mandatory : No Calculator : None  
Response Time : N.A Think Time : N.A Minimum Instruction Time : 0

Correct Marks : 5 Wrong Marks : 1

Question Key Details :

Key	Value
Comprehension	MCQ

முற்கால கல்வெட்டுக்கள் மற்றும் நாணயங்களில் எழுதப் பயன்படுத்தப்பட்ட வரி வடிவங்களான பிரம்மி மற்றும் கరోஸ்தி ஆகியவற்றை உருவாக்கியவர் யார் ?

- (1) காலின் பெக்கன்ஸி
- (2) ஜேம்ஸ் பிரின்ஸெப்
- (3) அலெக்ஸாண்டர் கன்னிங்ஹாம்
- (4) டி.சி. சர்கார்

Options :

- 212807119205 1  
212807119206 2  
212807119207 3  
212807119208 4

Question Number : 107 Question Id : 21280729801 Question Type : MCQ Option Shuffling : No Is Question Mandatory : No Calculator : None  
Response Time : N.A Think Time : N.A Minimum Instruction Time : 0

Correct Marks : 5 Wrong Marks : 1

Question Key Details :

Key	Value
Comprehension	MCQ

పూర్వ శాసనాలు మరియు నాణెలలో ఉపయోగించిన గ్రాహ్మీ మరియు కరోస్తి లిపిలను అర్థం చేసుకున్నది ఎవరు ?

- (1) కొలిన్ మాకెన్జీ
- (2) జేమ్స్ ప్రின்సెప్
- (3) అలెగ్జాండర్ కున్సింగ్హామ్
- (4) డి.సి. సర్కార్

Options :

- 212807119205 1  
212807119206 2  
212807119207 3  
212807119208 4

Question Number : 108 Question Id : 21280729802 Question Type : MCQ Option Shuffling : No Is Question Mandatory : No Calculator : None  
Response Time : N.A Think Time : N.A Minimum Instruction Time : 0

Correct Marks : 5 Wrong Marks : 1

Question Key Details :

Key	Value
Comprehension	MCQ

قدیم کتبوں اور سکوں میں استعمال رسم الخط براہمی (Brahmi) اور کھروشی (Kharoshthi) کو کس نے طے کیا۔

- (1) کولن مکینزی (Colin Mackenzie)
- (2) جیمس پرنسپ (James Prinsep)
- (3) ایلگزینڈر کونینگھم (Alexander Cunningham)
- (4) ڈی ی سیرکار (D.C. Sircar)

Options :

- 212807119205 1  
212807119206 2  
212807119207 3

212807119209\_4

Question Number : 208 Question Id : 21280719803 Question Type : MCQ Option Shuffling : No Is Question Mandatory : No Calculator : None  
Response Time : N.A Think Time : N.A Minimum Instruction Time : 0

Correct Marks : 5 Wrong Marks : 1

Question Key Details :

Key	Value
Comprehension	MCQ

The study of inscriptions is termed as \_\_\_\_\_

- (1) Epigraphy
- (2) Numismatics
- (3) Archaeology
- (4) Palaeography

Options :

212807119209\_1

212807119210\_2

212807119211\_3

212807119212\_4

Question Number : 208 Question Id : 21280719803 Question Type : MCQ Option Shuffling : No Is Question Mandatory : No Calculator : None  
Response Time : N.A Think Time : N.A Minimum Instruction Time : 0

Correct Marks : 5 Wrong Marks : 1

Question Key Details :

Key	Value
Comprehension	MCQ

अभिलेखों के अध्ययन को \_\_\_\_\_ कहा जाता है।

- (1) अभिलेखशास्त्र
- (2) मुद्राशास्त्र
- (3) पुरातत्वशास्त्र
- (4) पुरालिपिशास्त्र

Options :

212807119209\_1

212807119210\_2

212807119211\_3

212807119212\_4

Question Number : 208 Question Id : 21280719803 Question Type : MCQ Option Shuffling : No Is Question Mandatory : No Calculator : None  
Response Time : N.A Think Time : N.A Minimum Instruction Time : 0

Correct Marks : 5 Wrong Marks : 1

Question Key Details :

Key	Value
Comprehension	MCQ

शिलालिपि अवयवों को क्या कहते हैं —

- (1) एपिग्राफी
- (2) निडिनिचमेटिक
- (3) आर्कियोलॉजी
- (4) पैलिओग्राफी

Options :

212807119209\_1

212807119210\_2

212807119211\_3

212507119212-4

Question Number : 108 Question Id : 21280719803 Question Type : MCQ Option Shuffling : No Is Question Mandatory : No Calculator : None  
Response Time : N.A Think Time : N.A Minimum Instruction Time : 0  
Correct Marks : 5 Wrong Marks : 1

Question Key Details :

Key	Value
Comprehension	MCQ

ಲೇಖ ಸಂಕ್ರಾಂತ ಪಙ್ಚಾಂಗವನ್ನು ಯಾವ ಶಬ್ದವು ಪ್ರಕಾಶಿಸುತ್ತದೆ ?

- (1) ಲೇಖ ಸಂಕ್ರಾಂತ ವಿದ್ಯಾ ವಾ ಲೇಖ ತತ್ವ
- (2) ಮೂಲತತ್ವ ವಾ ಮೂಲಸಂಕ್ರಾಂತ ವಿದ್ಯಾ
- (3) ಪ್ರಕೃತತತ್ವ
- (4) ಪ್ರಾಚೀನ ಹತ್ತಿರಲಿಪಿ ಸಂಕ್ರಾಂತ ವಿದ್ಯಾ

Options :

212807119209-1  
212807119210-1  
212507119211-3  
212807119212-4

Question Number : 109 Question Id : 21280719803 Question Type : MCQ Option Shuffling : No Is Question Mandatory : No Calculator : None  
Response Time : N.A Think Time : N.A Minimum Instruction Time : 0

Correct Marks : 5 Wrong Marks : 1

Question Key Details :

Key	Value
Comprehension	MCQ

ಅಖಿಲೋಪನಿಷತ್ ಅಧ್ಯಯನದಿಂದ ಯಾವ ಶಬ್ದವು ಪ್ರಕಾಶಿಸುತ್ತದೆ ?

- (1) ಅಖಿಲೋಪನಿಷತ್
- (2) ಸಿದ್ಧಾಂತ
- (3) ಪುರಾಣಶಾಸ್ತ್ರ
- (4) ಪುರಾಣಶಾಸ್ತ್ರ

Options :

212807119209-1  
212807119210-2  
212807119211-3  
212507119212-4

Question Number : 108 Question Id : 21280719803 Question Type : MCQ Option Shuffling : No Is Question Mandatory : No Calculator : None  
Response Time : N.A Think Time : N.A Minimum Instruction Time : 0

Correct Marks : 5 Wrong Marks : 1

Question Key Details :

Key	Value
Comprehension	MCQ

ಪಾಪನಾಶಕ ಅಧ್ಯಯನವನ್ನು ಯಾವ ಶಬ್ದವು ಪ್ರಕಾಶಿಸುತ್ತದೆ ?

- (1) ಪಾಪನಾಶಕ
- (2) ಸ್ವಾಮೀಶ್ವರ
- (3) ಅಧ್ಯಯನ
- (4) ಪಾಲಿಯೋಗ್ರಫಿ

Options :

212507119209-1  
212807119210-3

212507119211 3  
212507119212 4

Question Number : 205 Question Id : 21280729803 Question Type : MCQ Option Shuffling : No Is Question Mandatory : No Calculator : None  
Response Time : N.A Think Time : N.A Minimum Instruction Time : 0  
Correct Marks : 5 Wrong Marks : 1

Question Key Details :

Key	Value
Comprehension	MCQ

नेखांचा अभ्यास करणाऱ्या शास्त्रास \_\_\_\_\_ म्हणतात :

- (1) पुरालेखशास्त्र
- (2) नाणकशास्त्र
- (3) पुरातत्वशास्त्र
- (4) शिलालेखशास्त्र

Options :

212807119209 1  
212507119210 2  
212807119211 3  
212507119212 4

Question Number : 208 Question Id : 21280729803 Question Type : MCQ Option Shuffling : No Is Question Mandatory : No Calculator : None  
Response Time : N.A Think Time : N.A Minimum Instruction Time : 0

Correct Marks : 5 Wrong Marks : 1

Question Key Details :

Key	Value
Comprehension	MCQ

പുരാതനലിഖിത ശാസ്ത്രത്തെക്കുറിച്ചുള്ള പഠനത്തിന് പറയുന്ന പേര് :

- (1) എപ്പിഗ്രാഫി
- (2) ന്യൂമിസ്മാറ്റിക്സ്
- (3) ആർക്കിടയാളജി
- (4) പാലിഗ്രാഫി

Options :

212807119209 1  
212807119210 2  
212507119211 3  
212807119212 4

Question Number : 208 Question Id : 21280729803 Question Type : MCQ Option Shuffling : No Is Question Mandatory : No Calculator : None  
Response Time : N.A Think Time : N.A Minimum Instruction Time : 0

Correct Marks : 5 Wrong Marks : 1

Question Key Details :

Key	Value
Comprehension	MCQ

ଶିଳାଲିପି/ମୁଦ୍ରାଲିପିର ଅଧ୍ୟୟନକୁ କ'ଣ କୁହାଯାଏ ?

- (1) ଲିପିବିଦ୍ୟା
- (2) ପୁରାତନ ମୁଦ୍ରା ଓ ପତରର ଅଧ୍ୟୟନ
- (3) ପୁରୁଷକୁ ବିଦ୍ୟା
- (4) ପୁରାତନ ଶେଷ, ଚକିର ଓ ଚନ୍ଦ୍ରବିହର ଅଧ୍ୟୟନ

Options :

212507119209 1



212507119210 1  
212507119211 3  
212507119212 4

Question Number : 108 Question Id : 21250729803 Question Type : MCQ Option Shuffling : No Is Question Mandatory : No Calculator : None  
Response Time : N.A Think Time : N.A Minimum Instruction Time : 0

Correct Marks : 5 Wrong Marks : 1

Question Key Details :

Key	Value
Comprehension	MCQ

ਲਿੰਪੀਆਂ ਦਾ ਅਫਿਐਨ ਵਿਰਾ ਜਾਂਦਾ ਹੈ :

- (1) ਐਪੀਗ੍ਰਾਫੀ
- (2) ਨਿਊਮੀਸਮੈਟਿਕਸ
- (3) ਆਰਚੇਲੋਜੀ
- (4) ਖਲੋਓਗ੍ਰਾਫੀ

Options :

212507119209 1  
212507119210 3  
212507119211 3  
212507119212 4

Question Number : 108 Question Id : 21250729803 Question Type : MCQ Option Shuffling : No Is Question Mandatory : No Calculator : None  
Response Time : N.A Think Time : N.A Minimum Instruction Time : 0

Correct Marks : 5 Wrong Marks : 1

Question Key Details :

Key	Value
Comprehension	MCQ

ਕਲੰਵੇਵੱਡੁ ਓਰਾਯੱਚੀ ਏਵੱਵਾਠੁ ਅਠੁਠਕੱਠੁਠੁਕੀਠੁਠੁ ?

- (1) ਕਲੰਵੇਵੱਡੁ ਠੁਠਠਠ
- (2) ਨਾਠਠਠਠ ਠੁਠਠਠ
- (3) ਠੁਠਠਠਠਠਠਠਠ
- (4) ਠੁਠਠਠਕਾਠਠਠਠਠਠਠ

Options :

212507119209 1  
212507119210 1  
212507119211 3  
212507119212 4

Question Number : 108 Question Id : 21250729803 Question Type : MCQ Option Shuffling : No Is Question Mandatory : No Calculator : None  
Response Time : N.A Think Time : N.A Minimum Instruction Time : 0

Correct Marks : 5 Wrong Marks : 1

Question Key Details :

Key	Value
Comprehension	MCQ

కాననాలను అభ్యసించడాన్ని ఏమంటారు ?

- (1) శిలాశేఖన (లిపి) శాస్త్రము
- (2) నాణె ముద్రల శాస్త్రము
- (3) పురావస్తు శాస్త్రము
- (4) ప్రాచీన లిపి శాస్త్రము

Options :

- 212807119209 1  
212807119210 2  
212807119211 3  
212807119212 4

Question Number : 195 Question Id : 21280719503 Question Type : MCQ Option Shuffling : No Is Question Mandatory : No Calculator : None  
Response Time : N.A Think Time : N.A Minimum Instruction Time : 0

Correct Marks : 5 Wrong Marks : 1

Question Key Details :

Key	Value
Comprehension	MCQ

كَلِمَات كَمَا لَعَلَّ كَلِّ لِنُؤْسِي اسْمَاعِلِحْ هـ

- (1) علم كنهات (Epigraphy)
- (2) علم كوكباتي (Numismatics)
- (3) علم آثار قديمه (Archaeology)
- (4) علم قديم نويسی (Palaeography)

Options :

- 212807119209 1  
212807119210 2  
212807119211 3  
212807119212 4

Question Number : 209 Question Id : 21280719504 Question Type : MCQ Option Shuffling : No Is Question Mandatory : No Calculator : None  
Response Time : N.A Think Time : N.A Minimum Instruction Time : 0

Correct Marks : 5 Wrong Marks : 1

Question Key Details :

Key	Value
Comprehension	MCQ

Arrange the following in a chronological order :

- (A) Mahabharata
- (B) Sushruta Samhita
- (C) Ashtadhyayi
- (D) Sanskrit plays of Kalidasa
- (E) Natyashastra

Choose the correct answer from the options given below :

- (1) (B), (E), (C), (D), (A)
- (2) (C), (A), (B), (E), (D)
- (3) (A), (C), (B), (E), (D)
- (4) (A), (B), (E), (C), (D)

Options :

212807119213 1

212807119214 2

212807119215 3

212807119216 4

Question Number : 109 Question Id : 21280719804 Question Type : MCQ Option Shuffling : No Is Question Mandatory : No Calculator : None  
Response Time : N.A Think Time : N.A Minimum Instruction Time : 0  
Correct Marks : 5 Wrong Marks : 1

Question Key Details :

Key	Value
Comprehension	MCQ

निम्न को उनके कालक्रम के अनुसार व्यवस्थित कीजिये :

- (A) महाभारत
- (B) सुश्रुत संहिता
- (C) अष्टाध्यायी
- (D) कालिदास के संस्कृत नाटक
- (E) नाट्यशास्त्र

नीचे दिए गए विकल्पों में से सही उत्तर का चयन कीजिए :

- (1) (B), (E), (C), (D), (A)
- (2) (C), (A), (B), (E), (D)
- (3) (A), (C), (B), (E), (D)
- (4) (A), (B), (E), (C), (D)

Options :

212807119213 1

212807119214 2

212807119215 3

212807119216 4

Question Number : 109 Question Id : 21280719804 Question Type : MCQ Option Shuffling : No Is Question Mandatory : No Calculator : None  
Response Time : N.A Think Time : N.A Minimum Instruction Time : 0  
Correct Marks : 5 Wrong Marks : 1

Question Key Details :

Key	Value
Comprehension	MCQ

ক্রম অনুসৰি তলত দিয়াবোৰ সজোৱা :

- (A) মহাভাৰত
- (B) সুশত সংহিতা
- (C) অষ্টাধ্যায়ী
- (D) কালিদাসৰ সংস্কৃত নাটক
- (E) নাট্যশাস্ত্ৰ

তলত দিয়া বিকল্পসমূহৰপৰা শুদ্ধ উত্তৰটো বাছি উলিওৱা :

- (1) (B), (E), (C), (D), (A)
- (2) (C), (A), (B), (E), (D)
- (3) (A), (C), (B), (E), (D)
- (4) (A), (B), (E), (C), (D)

Options :

212807119213 1

212807119214 2

212807119215 3

212807119216 4

Question Number : 109 Question Id : 21280729804 Question Type : MCQ Option Shuffling : No Is Question Mandatory : No Calculator : None  
Response Time : N.A Think Time : N.A Minimum Instruction Time : 0

Correct Marks : 5 Wrong Marks : 1

Question Key Details :

Key	Value
Comprehension	MCQ

নিচত উল্লেখিত বিবন্ধগুলি কালানুক্রমিকভাবে সাজাও :

- (A) মহাভাৰত
- (B) সুশত সংহিতা
- (C) অষ্টাধ্যায়ী
- (D) কালিদাসৰ সংস্কৃত নাটক
- (E) নাট্যশাস্ত্ৰ

নিচত বিকল্পগুলি থেকে সঠিক উত্তৰটি বেৰ কৰা :

- (1) (B), (E), (C), (D), (A)
- (2) (C), (A), (B), (E), (D)
- (3) (A), (C), (B), (E), (D)
- (4) (A), (B), (E), (C), (D)

Options :

212807119213 1

212807119214 2

212807119215 3

212807119216 4

Question Number : 109 Question Id : 21280729804 Question Type : MCQ Option Shuffling : No Is Question Mandatory : No Calculator : None  
Response Time : N.A Think Time : N.A Minimum Instruction Time : 0

Correct Marks : 5 Wrong Marks : 1

Question Key Details :

Key	Value
-----	-------

नीचेनाने डोनांलोगकल ओईरमा लओो :

- (A) महाभारत
- (B) सुश्रुत संहित
- (C) Ashtadhyayi
- (D) कालिदासना संस्कृत नाटकी
- (E) नाट पशास्त्र

नीचे आपिला विकल्पोमांची साथो उत्तर शोधी :

- (1) (B), (E), (C), (D), (A)
- (2) (C), (A), (B), (E), (D)
- (3) (A), (C), (B), (E), (D)
- (4) (A), (B), (E), (C), (D)

Options :

212807119213 1

212807119214 2

212807119215 3

212807119216 4

Question Number : 209 Question Id : 21280729804 Question Type : MCQ Option Shuffling : No Is Question Mandatory : No Calculator : None Response Time : N.A Think Time : N.A Minimum Instruction Time : 0

Correct Marks : 5 Wrong Marks : 1

Question Key Details :

Key	Value
Comprehension	MCQ

ಕೆಳಗಿನವುಗಳನ್ನು ಕಾಲಾನುಕ್ರಮದಲ್ಲಿ ಜೋಡಿಸಿ :

- (A) ಮಹಾಭಾರತ
- (B) ಸುಶ್ರುತ ಸಂಹಿತೆ
- (C) ಅಷ್ಟಾಧ್ಯಾಯಿ
- (D) ಕಾಳಿದಾಸನ ಸಂಸ್ಕೃತ ನಾಟಕಗಳು
- (E) ನಾಟಕಶಾಸ್ತ್ರ

ಕೆಳಗೆ ನೀಡಿರುವ ಆಯ್ಕೆಗಳಿಂದ ಸರಿಯಾದ ಉತ್ತರವನ್ನು ಆರಿಸಿ.

- (1) (B), (E), (C), (D), (A)
- (2) (C), (A), (B), (E), (D)
- (3) (A), (C), (B), (E), (D)
- (4) (A), (B), (E), (C), (D)

Options :

212807119213 1

212807119214 2

212807119215 3

212807119216 4

Question Number : 209 Question Id : 21280729804 Question Type : MCQ Option Shuffling : No Is Question Mandatory : No Calculator : None Response Time : N.A Think Time : N.A Minimum Instruction Time : 0

Correct Marks : 5 Wrong Marks : 1

Question Key Details :

Key	Value
-----	-------

കാലാനുക്രമം യോഗ്യ ക്രമാനുമാല :

- (A) മഹാഭാരത
- (B) സുശ്രുത സഹിത
- (C) അഷ്ടാദ്ധ്യായ
- (D) ക്കാലീദാസാചാ സംസ്കൃത നാടക
- (E) നാട്യശാസ്ത്ര

ഖാലാ ദിലെല്ലാ പര്യായാമമൂന യോഗ്യ പര്യാല നിലഡ :

- (1) (B), (E), (C), (D), (A)
- (2) (C), (A), (B), (E), (D)
- (3) (A), (C), (B), (E), (D)
- (4) (A), (B), (E), (C), (D)

Options :

- 212807119213 1
- 212807119214 2
- 212807119215 3
- 212807119216 4

Question Number : 209 Question Id : 21280719804 Question Type : MCQ Option Shuffling : No Is Question Mandatory : No Calculator : None Response Time : N.A Think Time : N.A Minimum Instruction Time : 0

Correct Marks : 5 Wrong Marks : 1

Question Key Details :

Key	Value
Comprehension	MCQ

കാലഘട്ടത്തിനനുസരിച്ച് ക്രമീകരിക്കുക.

- (A) മഹാഭാരത
- (B) സുശ്രുത സംഹിത
- (C) അഷ്ടാദ്ധ്യായി
- (D) കാലീദാസ കഥകൾ
- (E) നാട്യശാസ്ത്ര

താഴെ തന്നിരിക്കുന്നവയിൽ നിന്നും ശരിയായത് തിരഞ്ഞെടുക്കുക.

- (1) (B), (E), (C), (D), (A)
- (2) (C), (A), (B), (E), (D)
- (3) (A), (C), (B), (E), (D)
- (4) (A), (B), (E), (C), (D)

Options :

- 212807119213 1
- 212807119214 2
- 212807119215 3
- 212807119216 4

Question Number : 209 Question Id : 21280719804 Question Type : MCQ Option Shuffling : No Is Question Mandatory : No Calculator : None Response Time : N.A Think Time : N.A Minimum Instruction Time : 0

Correct Marks : 5 Wrong Marks : 1

Question Key Details :

Key	Value
Comprehension	MCQ

ਜਿਹੜੇ ਕ੍ਰਮਾਂ ਵਿੱਚ ਦਿੱਤੇ ਸ਼ਬਦਾਂ ਦਾ ਸਮਾਜਿਕ ਅਰਥ ਹੈ ?

- (A) ਸਮਾਜਿਕ
- (B) ਸਮਾਜਿਕ
- (C) ਸਮਾਜਿਕ
- (D) ਸਮਾਜਿਕ
- (E) ਸਮਾਜਿਕ

ਜਿਹੜੇ ਕ੍ਰਮਾਂ ਵਿੱਚ ਦਿੱਤੇ ਸ਼ਬਦਾਂ ਦਾ ਸਮਾਜਿਕ ਅਰਥ ਹੈ ?

- (1) (B), (E), (C), (D), (A)
- (2) (C), (A), (B), (E), (D)
- (3) (A), (C), (B), (E), (D)
- (4) (A), (B), (E), (C), (D)

Options :

- 212807119213 1
- 212807119214 2
- 212807119215 3
- 212807119216 4

Question Number : 209 Question Id : 21280719804 Question Type : MCQ Option Shuffling : No Is Question Mandatory : No Calculator : None  
Response Time : N.A Think Time : N.A Minimum Instruction Time : 0

Correct Marks : 5 Wrong Marks : 1

Question Key Details :

Key	Value
Comprehension	MCQ

ਨਿਮਨਲਿਖਤ ਨੂੰ ਕਾਲ ਕ੍ਰਮ ਅਨੁਸਾਰ ਕਰੋ :

- (A) ਮਹਾਂਭਾਰਤ
- (B) ਸੁਸ਼ਰੁਤਾ ਸੰਹਿਤਾ
- (C) ਅਸ਼ਟਾਧਿਆਇ
- (D) ਕਾਲੀਦਾਸ ਦਾ ਸੰਸਕ੍ਰਿਤ ਨਾਟਕ
- (E) ਨਾਟਯਸ਼ਾਸਤਰ

ਹੇਠ ਲਿਖਿਆਂ ਵਿਕਲਪਾਂ ਵਿੱਚ ਸਹੀ ਉੱਤਰ ਦੀ ਚੋਣ ਕਰੋ :

- (1) (B), (E), (C), (D), (A)
- (2) (C), (A), (B), (E), (D)
- (3) (A), (C), (B), (E), (D)
- (4) (A), (B), (E), (C), (D)

Options :

- 212807119213 1
- 212807119214 2
- 212807119215 3
- 212807119216 4

Question Number : 209 Question Id : 21280719804 Question Type : MCQ Option Shuffling : No Is Question Mandatory : No Calculator : None  
Response Time : N.A Think Time : N.A Minimum Instruction Time : 0

Correct Marks : 5 Wrong Marks : 1

## Question Key Details :

Key	Value
Comprehension	MCQ

கீழ்க் காண்பவற்றை கால வரிசைப்படி அமைக்கவும்.

- (A) மஹாபாரதம்
- (B) சஷ்டிருத சம்ஹிதா
- (C) அஷ்டத்யாயி
- (D) காளிதாசரின் சமஸ்கிருத நாடகங்கள்
- (E) நாட்டிய சாஸ்திரம்

கீழ்க்காணும் விருப்பத் தொகுிகளில் இருந்து சரியான விடையைத் தெரிவு செய்யவும்.

- (1) (B), (E), (C), (D), (A)
- (2) (C), (A), (B), (E), (D)
- (3) (A), (C), (B), (E), (D)
- (4) (A), (B), (E), (C), (D)

## Options :

- 212807119213 1
- 212807119214 2
- 212807119215 3
- 212807119216 4

Question Number : 209 Question Id : 21280729804 Question Type : MCQ Option Shuffling : No Is Question Mandatory : No Calculator : None  
Response Time : N/A Think Time : N/A Minimum Instruction Time : 0  
Correct Marks : 5 Wrong Marks : 1

## Question Key Details :

Key	Value
Comprehension	MCQ

கீழ்க் காண்பவற்றை கால வரிசைப்படி அமைக்கவும் :

- (A) மஹாபாரதம்
- (B) சஷ்டிருத சம்ஹிதா
- (C) அஷ்டத்யாயி
- (D) காளிதாசரின் சமஸ்கிருத நாடகங்கள்
- (E) நாட்டிய சாஸ்திரம்

கீழ்க்காணும் விருப்பத் தொகுிகளில் இருந்து சரியான விடையைத் தெரிவு செய்யவும் :

- (1) (B), (E), (C), (D), (A)
- (2) (C), (A), (B), (E), (D)
- (3) (A), (C), (B), (E), (D)
- (4) (A), (B), (E), (C), (D)

## Options :

- 212807119213 1
- 212807119214 2
- 212807119215 3
- 212807119216 4

Question Number : 209 Question Id : 21280729804 Question Type : MCQ Option Shuffling : No Is Question Mandatory : No Calculator : None  
Response Time : N/A Think Time : N/A Minimum Instruction Time : 0



Correct Marks : 5 Wrong Marks : 1

Question Key Details :

Key	Value
Comprehension	MCQ

مندرجہ ذیل کو تاریخی اعتبار سے ترتیب دیں۔

(A) مہابھارت (Mahabharata)

(B) سوشروتا سمجھا (Sushruta Samhita)

(C) آٹھادھیائی (Ashtadhyayi)

(D) کالی داس کے شکر تڈرائے (Sanskrit plays of Kalidasa)

(E) ناطیہ شاسترا (Natyashastra)

(1) (A), (D), (C), (E), (B)

(2) (D), (E), (B), (A), (C)

(3) (D), (B), (C), (A), (E)

(4) (D), (C), (E), (B), (A)

Options :

112807119213 1

112807119214 1

112807119215 3

112807119216 4

Question Number : 110 Question Id : 11280729805 Question Type : MCQ Option Shuffling : No Is Question Mandatory : No Calculator : None  
Response Time : N.A Think Time : N.A Minimum Instruction Time : 0

Correct Marks : 5 Wrong Marks : 1

Question Key Details :

Key	Value
Comprehension	MCQ

The only European traveller to provide a detailed account on the working of the imperial 'Karkhanas' was :

(1) Antonio Monserrate

(2) Francois Bernier

(3) Peter Mundy

(4) Jean-Baptiste Tavernier

Options :

112807119217 1

112807119218 1

112807119219 3

112807119220 4

Question Number : 110 Question Id : 11280729805 Question Type : MCQ Option Shuffling : No Is Question Mandatory : No Calculator : None  
Response Time : N.A Think Time : N.A Minimum Instruction Time : 0

Correct Marks : 5 Wrong Marks : 1

Question Key Details :

Key	Value
Comprehension	MCQ

एकमात्र यूरोपीय यात्री जो राजकीय 'कारखानों' का विस्तृत विवरण प्रस्तुत करता है?

- (1) अंतोनियो मानसेरेते
- (2) फ्रांस्वा बर्नियर
- (3) पीटर मुंडी
- (4) ज्यी बेपटिस्ट तेवर्नियर

Options :

- 212807119217 1  
212807119218 2  
212807119219 3  
212807119220 4

Question Number : 210 Question Id : 21280719808 Question Type : MCQ Option Shuffling : No Is Question Mandatory : No Calculator : None  
Response Time : N.A Think Time : N.A Minimum Instruction Time : 0

Correct Marks : 5 Wrong Marks : 1

Question Key Details :

Key	Value
Comprehension	MCQ

साम्राज्यावादी कारखानासमूहों का काम-काज का विवरण दिया एकमात्र ইউরোपीয় ভ্রমণকারী আছিল —

- (1) एन्टोनियो मनसेरेते
- (2) फ्रान्कोइस बर्नियर
- (3) पीटर मुंडी
- (4) जी-बेप्टिस्ट टैवर्नियर

Options :

- 212807119217 1  
212807119218 2  
212807119219 3  
212807119220 4

Question Number : 210 Question Id : 21280719808 Question Type : MCQ Option Shuffling : No Is Question Mandatory : No Calculator : None  
Response Time : N.A Think Time : N.A Minimum Instruction Time : 0

Correct Marks : 5 Wrong Marks : 1

Question Key Details :

Key	Value
Comprehension	MCQ

एकमात्र एकজনই রাজকীয় 'কারখানা'র কার্যাবলী সংক্ষেপে বিশদ বিবরণ প্রদান করেছেন, তিনি হলেন —

- (1) আন্তোনিও মানসেরেতে
- (2) ফ্রান্সোইস বার্নিয়ে
- (3) পিটার মুন্ডি
- (4) জী-ব্যাপটিস্ট তাভর্নিয়ে

Options :

- 212807119217 1  
212807119218 2  
212807119219 3  
212807119220 4

Question Number : 210 Question Id : 21280719808 Question Type : MCQ Option Shuffling : No Is Question Mandatory : No Calculator : None  
Response Time : N.A Think Time : N.A Minimum Instruction Time : 0

Correct Marks : 5 Wrong Marks : 1

Question Key Details :

Key	Value
Comprehension	MCQ

એકમાત્ર યુરોપીયન મુસાફર કે જેને શબ્દી 'કારખાનાઓ' ની કામગીરીનું વિગતે વિવરણ આપ્યું છે તે :

- (1) એન્ટોનીઓ મોન્સેરેટ
- (2) ફ્રાન્કોઇસ બર્નીયર
- (3) પીટર મુંડી
- (4) જાન-બાપ્ટીસ્ટ ટવેર્નીયર

Options :

- 212807119217 1  
212807119218 2  
212807119219 3  
212807119220 4

Question Number : 110 Question Id : 21280719806 Question Type : MCQ Option Shuffling : No Is Question Mandatory : No Calculator : None  
Response Time : N.A Think Time : N.A Minimum Instruction Time : 0

Correct Marks : 5 Wrong Marks : 1

Question Key Details :

Key	Value
Comprehension	MCQ

સામગ્રીઓના સંચયન અને વિતરણની કાર્યવિધિઓને વ્યવસ્થાપન તરીકે ઓળખવામાં આવે છે. નીચેનામાંથી સાચા વિકલ્પો પસંદ કરો :

- (1) અનુચિત વ્યવસ્થા
- (2) ડ્રાઇવિંગ બેચ
- (3) ટ્રેલર મુવિંગ
- (4) ટ્રેલર-ટ્રાક્ટર ટ્રાવેલિંગ

Options :

- 212807119217 1  
212807119218 2  
212807119219 3  
212807119220 4

Question Number : 110 Question Id : 21280719806 Question Type : MCQ Option Shuffling : No Is Question Mandatory : No Calculator : None  
Response Time : N.A Think Time : N.A Minimum Instruction Time : 0

Correct Marks : 5 Wrong Marks : 1

Question Key Details :

Key	Value
Comprehension	MCQ

'શાહી કારખાનાઓ' કાર્યપદ્ધતિના અભિવિકાસમાં મહત્વની ભૂમિકા ભજવેલા યુરોપીયન પ્રવાસી મુસાફરો :

- (1) અંટોનિઓ મોન્સેરેટ
- (2) ફ્રાન્કો બર્નીયર
- (3) પિટર મુંડી
- (4) જાન બાપ્ટીસ્ટ ટવેર્નીયર

Options :

- 212807119217 1  
212807119218 2  
212807119219 3  
212807119220 4

Question Number : 110 Question Id : 21280719806 Question Type : MCQ Option Shuffling : No Is Question Mandatory : No Calculator : None  
Response Time : N.A Think Time : N.A Minimum Instruction Time : 0

Correct Marks : 5 Wrong Marks : 1

Question Key Details :

Key	Value
Comprehension	MCQ

കർഹാത രാജവംശത്തെപ്പറ്റി വിവരണം രേഖപ്പെടുത്തിയ ഏക പാശ്ചാത്യ സഞ്ചാരി :

- (1) അന്റണി മോൺസിറോസ്
- (2) ഫ്രാങ്കോയിസ് ബെർണീർ
- (3) പീറ്റർ തണ്ടി
- (4) ജീൻ ബാപ്റ്റിസ്റ്റ് ട്രാവർനിയർ

Options :

- 212607119217 1
- 212607119218 2
- 212607119219 3
- 212607119220 4

Question Number : 110 Question Id : 21260729805 Question Type : MCQ Option Shuffling : No Is Question Mandatory : No Calculator : None

Response Time : N.A Think Time : N.A Minimum Instruction Time : 0

Correct Marks : 5 Wrong Marks : 1

Question Key Details :

Key	Value
Comprehension	MCQ

'ലാജാനാദ്' വാചാഭ്യ വശജാഖ ദശൂർ് ദിഭരണാ ദിഗ്ദിഭൂര നഖരൂ കേഖ് ചക്നാജ് മൂരോദിപ് മഘ്വ് രേഖജ്വലേ :

- (1) ലാജാനാദ് നരവേദന
- (2) ഗ്വാന്ദിദരോ ദർശിപര
- (3) ദിഭര ദൂരേ
- (4) ദിഭ-ന്യാദിദേഭേ ദ്വാരോദിപര

Options :

- 212607119217 1
- 212607119218 2
- 212607119219 3
- 212607119220 4

Question Number : 110 Question Id : 21260729805 Question Type : MCQ Option Shuffling : No Is Question Mandatory : No Calculator : None

Response Time : N.A Think Time : N.A Minimum Instruction Time : 0

Correct Marks : 5 Wrong Marks : 1

Question Key Details :

Key	Value
Comprehension	MCQ

ਇਕੋ-ਇੱਕ ਯੂਰਪੀ ਯਾਤਰੀ, ਜਿਸ ਨੇ 'ਕਾਰਖਾਨ' ਸਾਮਰਾਜ ਦੇ ਕਾਰਜ ਦਾ ਵਿਸਥਾਰ ਸਪੱਸ਼ਟ ਵਰਣਨ ਕੀਤਾ ।

- (1) ਕੈਨਤੋਨੀਚ ਮੋਨਮਾਰਤੇ
- (2) ਫਰੈਂਕੋਸ ਬਰਨਰ
- (3) ਪੀਟਰ ਮੁੰਡੇ
- (4) ਜੀਨ-ਬਾਪਤਸੇ ਤਾਵਾਰਨੀਅਰ

Options :

- 212607119217 1
- 212607119218 2
- 212607119219 3
- 212607119220 4

Question Number : 210 Question Id : 21280719905 Question Type : MCQ Option Shuffling : No Is Question Mandatory : No Calculator : None  
Response Time : N.A Think Time : N.A Minimum Instruction Time : 0

Correct Marks : 5 Wrong Marks : 1

Question Key Details :

Key	Value
Comprehension	MCQ

காலனி ஆட்சி தொழிற்சாலைகள் செயல்படும் விதம் குறித்து எந்த ஐரோப்பிய (யாத்ரிகர்) பயணி விரிவாக எழுதியுள்ளார் ?

- (1) அண்டோனியோ மோனசெரேட்
- (2) ஃபிரான்சுயா பெர்னியர்
- (3) பீட்டர் ஹண்டி
- (4) ஜீன்-பாப்டிஸ்ட் டாவெர்னியர்

Options :

212807199217-1

212807199218-2

212807199219-3

212807199220-4

Question Number : 210 Question Id : 21280719905 Question Type : MCQ Option Shuffling : No Is Question Mandatory : No Calculator : None  
Response Time : N.A Think Time : N.A Minimum Instruction Time : 0

Correct Marks : 5 Wrong Marks : 1

Question Key Details :

Key	Value
Comprehension	MCQ

'காடூனாஸ' சோசூலஜி பனிதீர்ப்பை புரூ விவரண அடின விசை யூரஃப் பரூடகூலு விவரூ ?

- (1) அஃலீவியூ மூஸ்செரஃடி
- (2) ஃரூஸூயூஸ் ஃபூயூயூ
- (3) பீட்டர் ஹண்டி
- (4) ஜீன்-பாப்டிஸ்ட் டாவெர்னியர்

Options :

212807199217-1

212807199218-2

212807199219-3

212807199220-4

Question Number : 210 Question Id : 21280719905 Question Type : MCQ Option Shuffling : No Is Question Mandatory : No Calculator : None  
Response Time : N.A Think Time : N.A Minimum Instruction Time : 0

Correct Marks : 5 Wrong Marks : 1

Question Key Details :

Key	Value
Comprehension	MCQ

شہنشاہی کارنامہ کے کام کے متعلق تفصیلی بیان کس اکیٹے یورپی سیاح نے مہیا کیا۔

(1) انٹونیو مونسریت (Antonio Monserrate)

(2) فرانکوایز برنیئر (Francois Bernier)

(3) پیٹر منڈی (Peter Mundy)

(4) جین بپٹیسٹ ٹریوینیر (Jean-Baptiste Tavernier)

Options :

112807119217 1

112807119218 2

112807119219 3

112807119220 4

Question Number : 211 Question Id : 21280729806 Question Type : MCQ Option Shuffling : No Is Question Mandatory : No Calculator : None  
Response Time : N.A Think Time : N.A Minimum Instruction Time : 0

Correct Marks : 5 Wrong Marks : 1

Question Key Details :

Key	Value
Comprehension	MCQ

The writings of which traveller were used by Montesquieu, the French Philosopher, to develop the idea of 'Oriental Despotism'.

(1) Francois Bernier.

(2) Pelsaert

(3) Peter Mundy

(4) Marco Polo

Options :

112807119221 1

112807119222 2

112807119223 3

112807119224 4

Question Number : 211 Question Id : 21280729806 Question Type : MCQ Option Shuffling : No Is Question Mandatory : No Calculator : None  
Response Time : N.A Think Time : N.A Minimum Instruction Time : 0

Correct Marks : 5 Wrong Marks : 1

Question Key Details :

Key	Value
Comprehension	MCQ

किस यात्री के वृत्तांतों को फ्रांसीसी दार्शनिक मॉन्टेस्क्यू ने 'प्राच्य तिरकुशवाद' के सिद्धांत को विकसित करने के लिये किया ?

(1) फ्रांस्वा बर्नियर

(2) प्लेसर्ट

(3) पीटर मुंडी

(4) मार्को पोलो

Options :

112807119221 1

112807119222 2

112807119223 3

112807119224 4

Question Number : 211 Question Id : 21280729806 Question Type : MCQ Option Shuffling : No Is Question Mandatory : No Calculator : None  
Response Time : N.A Think Time : N.A Minimum Instruction Time : 0

Correct Marks : 5 Wrong Marks : 1

Question Key Details :

Key	Value
Comprehension	MCQ

কোনজন অমণকাৰীৰ লিখনীয়ে ফৰাচী দাৰ্শনিক মণ্টেঙ্কিউৰ প্ৰাচাৰ 'নিষ্ঠাকতাৰ ধাৰণা'টো আগবঢ়াবলৈ বাবেহাৰ কৰিছিল ?

- (1) ব্ৰেনকেইচ বের্নিয়াৰ
- (2) পেলচিয়াৰ্ট
- (3) মিচাৰ মুণ্ডি
- (4) মাৰ্কো পোলো

Options :

212807119221 1

212807119222 2

212807119223 3

212807119224 4

Question Number : 211 Question Id : 21280729806 Question Type : MCQ Option Shuffling : No Is Question Mandatory : No Calculator : None Response Time : N.A Think Time : N.A Minimum Instruction Time : 0

Correct Marks : 5 Wrong Marks : 1

Question Key Details :

Key	Value
Comprehension	MCQ

'প্ৰাচা ব্ৰেণতন্ত্ৰ' এৰ ধাৰণা পৰিশুদ্ধ কৰাৰ জন্ম কৰাসী দাৰ্শনিক মণ্টেঙ্কি যে ঐতিহাসিকৰ গুৰুত্ব বাবেহাৰ কৰিছিল, তাৰ নাম—

- (1) ফ্ৰাঙ্কোইস বৰ্নিয়ে
- (2) পালস্যাৰ্ট
- (3) পিটাৰ মণ্ডি
- (4) মাৰ্কো পোলো

Options :

212807119221 1

212807119222 2

212807119223 3

212807119224 4

Question Number : 211 Question Id : 21280729806 Question Type : MCQ Option Shuffling : No Is Question Mandatory : No Calculator : None Response Time : N.A Think Time : N.A Minimum Instruction Time : 0

Correct Marks : 5 Wrong Marks : 1

Question Key Details :

Key	Value
Comprehension	MCQ

ইংলণ্ডৰ লাল্বখিলক মৌলনৰঙে 'থোৰীমেন্টেল ডেবপ্ৰটীজ' না বিয়াৰনে বিকসাধৰা জ্বা প্ৰবাসীনা লখাণ্ডোনো আধাৰ লীঘী হলো?

- (1) ইংল্ডিওন পৰ্নীফি
- (2) পেলস্যাৰ্ট
- (3) পিটাৰ মণ্ডি
- (4) মাৰ্কো পোলো

Options :

212807119221 1

212807119222 2

212807119223 3

212807119224 4

Question Number : 111 Question Id : 11280719221 Question Type : MCQ Option Shuffling : No Is Question Mandatory : No Calculator : None  
Response Time : N.A Think Time : N.A Minimum Instruction Time : 0

Correct Marks : 5 Wrong Marks : 1

Question Key Details :

Key	Value
Comprehension	MCQ

പ്രൈം കമ്പ്യൂട്ടർസ് മോണ്ടിറ്റിംഗ് റഫറൽ 'ഡിസൈംബർ റിപ്പോർട്ട്' ന്റെ പരികല്പനയെക്കുറിച്ച് കഴിഞ്ഞു കഴിഞ്ഞ  
യാവട്ടെ പ്രവർത്തിക്കുന്ന ഓപ്ഷനുകൾ ഏതൊക്കെ ?

- (1) ഫ്രാൻസീസ് ഡിസ്കോവർ
- (2) ജെ.പി.എസ്
- (3) ഹെൽമുട്ട് മൂർ
- (4) മാർക്കസ് ഗ്രീസെ

Options :

11280719221 1

11280719222 2

11280719223 3

11280719224 4

Question Number : 111 Question Id : 11280719222 Question Type : MCQ Option Shuffling : No Is Question Mandatory : No Calculator : None  
Response Time : N.A Think Time : N.A Minimum Instruction Time : 0

Correct Marks : 5 Wrong Marks : 1

Question Key Details :

Key	Value
Comprehension	MCQ

'അറിവ് ഡെവലപ്മെന്റ്' (പ്രായം അനുസരിച്ച സത്യം) ന്റെ കല്പന വികസനം ചെയ്ത ഫ്രീച്ച തത്വജ്ഞാണിയാണ് കോളിംഗ്  
പ്രവാചകൻ എഴുതിയതിന്റെ അടിസ്ഥാനം ?

- (1) ഫ്രീച്ച ഡെവലപ്മെന്റ്
- (2) ഫ്രീച്ച
- (3) ഫ്രീച്ച മെന്റ്
- (4) ഫ്രീച്ച ഡെവലപ്മെന്റ്

Options :

11280719221 1

11280719222 2

11280719223 3

11280719224 4

Question Number : 111 Question Id : 11280719223 Question Type : MCQ Option Shuffling : No Is Question Mandatory : No Calculator : None  
Response Time : N.A Think Time : N.A Minimum Instruction Time : 0

Correct Marks : 5 Wrong Marks : 1

Question Key Details :

Key	Value
Comprehension	MCQ

പ്രൈം കമ്പ്യൂട്ടർസ് മോണ്ടിറ്റിംഗ് റഫറൽ 'ഡിസൈംബർ റിപ്പോർട്ട്' ന്റെ പരികല്പനയെക്കുറിച്ച് കഴിഞ്ഞു കഴിഞ്ഞ  
യാവട്ടെ പ്രവർത്തിക്കുന്ന ഓപ്ഷനുകൾ ഏതൊക്കെ ?

- (1) ഫ്രാൻസീസ് ഡിസ്കോവർ
- (2) ജെ.പി.എസ്
- (3) ഹെൽമുട്ട് മൂർ
- (4) മാർക്കസ് ഗ്രീസെ



Options :

- 212807119221 1
- 212807119222 2
- 212807119223 3
- 212807119224 4

Question Number : 111 Question Id : 21280729806 Question Type : MCQ Option Shuffling : No Is Question Mandatory : No Calculator : None  
Response Time : N.A Think Time : N.A Minimum Instruction Time : 0

Correct Marks : 5 Wrong Marks : 1

Question Key Details :

Key	Value
Comprehension	MCQ

ନିମ୍ନଲିଖିତ ମଧ୍ୟରୁ କେଉଁ ପର୍ଯ୍ୟଟକଙ୍କର ଯେଉଁ 'ପ୍ରେମ ଚାର୍ଟିନିକ' ମୋନଡେଷୁ 'ପ୍ରାଚ୍ୟ ଜଗତ ଏଫ' ସଭ୍ୟତାର ଉପାଦାନ ଧାରଣା ରୁଷି ପାଇଁ ବ୍ୟବହାର କରିଥିଲେ ?

- (1) ଟ୍ରାମଜୋଇସ୍ ବର୍ଣ୍ଣିଅର
- (2) ପଲସର୍ଟ (Pelsaert)
- (3) ପିଚର ନୁଣ୍ଡେ
- (4) ମାକୋ ଯୋଲୋ

Options :

- 212807119221 1
- 212807119222 2
- 212807119223 3
- 212807119224 4

Question Number : 111 Question Id : 21280729806 Question Type : MCQ Option Shuffling : No Is Question Mandatory : No Calculator : None  
Response Time : N.A Think Time : N.A Minimum Instruction Time : 0

Correct Marks : 5 Wrong Marks : 1

Question Key Details :

Key	Value
Comprehension	MCQ

'ପୁରଖୀ ନିର୍ଭରୁସ୍ ମାମନା' ਦੇ ବିଚାର ଚା ବିକାସ କରନ ଲକ୍ଷୀ ଡର୍ବେଟ୍ ଚାରମ୍ପନିକ୍ ମାଟେମାଟିକ୍ସି ନେ ବିପକ୍ଷେ ଯାକ୍ସରୀ ଶି ଲିଧତ୍ ଚରଣି :

- (1) ଡର୍ବେଟ୍ସ୍ ସରନର
- (2) ପଲେସାରତ
- (3) ଧୀଟର ମୁଣ୍ଡେ
- (4) ମାକୋ ପିଲେ

Options :

- 212807119221 1
- 212807119222 2
- 212807119223 3
- 212807119224 4

Question Number : 111 Question Id : 21280729806 Question Type : MCQ Option Shuffling : No Is Question Mandatory : No Calculator : None  
Response Time : N.A Think Time : N.A Minimum Instruction Time : 0

Correct Marks : 5 Wrong Marks : 1

Question Key Details :

Key	Value
Comprehension	MCQ

'முதலாளித்துவ எதேச்சதிகாரம்' என்ற கருத்தை உருவாக்க பிரெஞ்சு தத்துவவாதி மோன்டெஸ்க்யூ, எந்த வெளிநாட்டு பயணியின் எழுத்துக்களைப் பயன்படுத்தினார் ?

- (1) ஃபிரான்சாய்ஸ் பெர்னியர்
- (2) பெல்சாயெர்ட்
- (3) பீட்டர் முண்டி
- (4) மார்தோ போலோ

Options :

- 212807119221 1  
212807119222 2  
212807119223 3  
212807119224 4

Question Number : 211 Question Id : 21280729806 Question Type : MCQ Option Shuffling : No Is Question Mandatory : No Calculator : None  
Response Time : N.A Think Time : N.A Minimum Instruction Time : 0  
Correct Marks : 5 Wrong Marks : 1

Question Key Details :

Key	Value
Comprehension	MCQ

மாంటெஸ்க்யூ, ஓக் ஸ்ரென்வீல்டுக்கு 'தூர்யுதேச நிர்வகணதத்துவ' ஆல்வசனி ஶ்டுடி தெண்டாஸீகீ வி ஶரூபகூடி ரவஸலு க்ஷயோகிவாது ?

- (1) ஶ்ரூக்ஷயிஸ் ஶெரூயிஸ்
- (2) ஶெலூயீ
- (3) ஶீடல் ஶுண்டீ
- (4) ஶூரூக்ஷி ஶூலீ

Options :

- 212807119221 1  
212807119222 2  
212807119223 3  
212807119224 4

Question Number : 211 Question Id : 21280729806 Question Type : MCQ Option Shuffling : No Is Question Mandatory : No Calculator : None  
Response Time : N.A Think Time : N.A Minimum Instruction Time : 0  
Correct Marks : 5 Wrong Marks : 1

Question Key Details :

Key	Value
Comprehension	MCQ

فرائسی قاسم مونتسکیو (Montesquieu) نے کس سیاح کی تحریروں سے مشرقی جاہلیت (Oriental Despotism) کا نظریہ اخذ کیا۔

- (1) فرانکو ایزر نیئر (Francois Bernier)
- (2) پیلساہرٹ (Pelsaert)
- (3) پیٹر منڈی (Peter Mundy)
- (4) مارکو پولو (Marco Polo)

Options :

- 212807119221 1  
212807119222 2

212507119223-3  
212507119224-4

Question Number : 112 Question Id : 21250729807 Question Type : MCQ Option Shuffling : No Is Question Mandatory : No Calculator : None  
Response Time : N.A Think Time : N.A Minimum Instruction Time : 0

Correct Marks : 5 Wrong Marks : 1

Question Key Details :

Key	Value
Comprehension	MCQ

In the sufi environment of medieval period, some mystics initiated movements based on a radical interpretation of sufi ideals. Many scorned the 'khanqah' culture and observed extreme forms of asceticism. They were known as :

- (1) Qalandars and Malangs
- (2) Khojas and Khaliphas
- (3) Pir and Murshid
- (4) Ba-sharia and Murid

Options :

212507119225-1  
212507119226-2  
212507119227-3  
212507119228-4

Question Number : 112 Question Id : 21250729807 Question Type : MCQ Option Shuffling : No Is Question Mandatory : No Calculator : None  
Response Time : N.A Think Time : N.A Minimum Instruction Time : 0

Correct Marks : 5 Wrong Marks : 1

Question Key Details :

Key	Value
Comprehension	MCQ

मध्यकाल के सूफी आन्दोलन में, कुछ रहस्यवादियों ने सूफी सिद्धांतों की क्रांतिकारी व्याख्या के आधार पर नवीन आंदोलनों को नींव रखी। कुछ ने 'खानकाह' संस्कृति की अवज्ञा की और उच्च सन्यासी जीवन लिया। उन्हें कहा जाता है :

- (1) कलन्दर और मलंग
- (2) खोजा और खलीफा
- (3) पीर और मुर्शिद
- (4) बा-शरिया और मुरीद

Options :

212507119229-1  
212507119230-2  
212507119231-3  
212507119232-4

Question Number : 112 Question Id : 21250729807 Question Type : MCQ Option Shuffling : No Is Question Mandatory : No Calculator : None  
Response Time : N.A Think Time : N.A Minimum Instruction Time : 0

Correct Marks : 5 Wrong Marks : 1

Question Key Details :

Key	Value
Comprehension	MCQ

মহামুগ্ধীয়া চুফী পরিবেশত, কিছুমান নিম্নিকসকলে (শার্মিক লোক) এটা উগ্রপন্থীৰ ওপকত ভিত্তি কৰি আন্দোলন আৰম্ভ কৰিছিল। চুফী আন্দোলক লৈ। বহুতে মানকাহ সংস্কৃতিক তুচ্ছজ্ঞান কৰিছিল আৰু চৰম তপস্যা পালন কৰিছিল। তেওঁলোক আছিল —

- (1) কলন্দৰ আৰু মজাংগ
- (2) খাজা আৰু খলিফা
- (3) পীৰ আৰু মুৰ্শিদ
- (4) বা-চৰিয়া আৰু মূৰিদ

Options :

- 212807119225 1  
212807119226 2  
212807119227 3  
212807119228 4

Question Number : 111 Question Id : 21280719807 Question Type : MCQ Option Shuffling : No Is Question Mandatory : No Calculator : None Response Time : N.A Think Time : N.A Minimum Instruction Time : 0

Correct Marks : 5 Wrong Marks : 1

Question Key Details :

Key	Value
Comprehension	MCQ

মদামুগ্ধের সুফী বাতাবরণে কিছু সাধুসন্ত সুফী মতাদর্শের চরম ব্যাখ্যার ভিত্তিতে আন্দোলন শুরু করেন। এদের অধিকাংশ খানকা সংস্কৃতিকে হেয় করেন এবং চরম সংযমী জীবন যাপন করেন। এরা যো নামে পরিচিত ছিলেন —

- (1) কোয়ালানদার ও মজাঙ্গ
- (2) খোজা ও খলিফা
- (3) পীর ও মুর্শিদ
- (4) বা-শারিয়া ও মূৰিদ

Options :

- 212807119225 1  
212807119226 2  
212807119227 3  
212807119228 4

Question Number : 112 Question Id : 21280719807 Question Type : MCQ Option Shuffling : No Is Question Mandatory : No Calculator : None Response Time : N.A Think Time : N.A Minimum Instruction Time : 0

Correct Marks : 5 Wrong Marks : 1

Question Key Details :

Key	Value
Comprehension	MCQ

মজ্জধাৰনা সুফী বাতাবরণে কিছু সাধুসন্ত সুফী মতাদর্শের চরম ব্যাখ্যার ভিত্তিতে আন্দোলন শুরু করেন। এদের অধিকাংশ খানকা সংস্কৃতিকে হেয় করেন এবং চরম সংযমী জীবন যাপন করেন। এরা যো নামে পরিচিত ছিলেন —

- (1) কলন্দার ও মজাঙ্গ
- (2) খোজা ও খলিফা
- (3) পীর ও মুর্শিদ
- (4) বা-শারিয়া ও মূৰিদ

Options :

- 212807119225 1  
212807119226 2

212807119227: 3  
212807119228: 4

Question Number : 111 Question Id : 21280719507 Question Type : MCQ Option Shuffling : No Is Question Mandatory : No Calculator : None  
Response Time : N.A Think Time : N.A Minimum Instruction Time : 0

Correct Marks : 5 Wrong Marks : 1

Question Key Details :

Key	Value
Comprehension	MCQ

ಮಧ್ಯಕಾಲೀನ ಅವಧಿಯ ಸೂಫಿ ಪರಿಸರದಲ್ಲಿ, ಕೆಲವು ತಂತ್ರಗಾರರು ಸೂಫಿ ಆದರ್ಶಗಳ ಅಮೂಲಾಗ್ರ ಬದಲಾವಣೆಯ ಮೇಲೆ ಚಳುವಳಿ ಆರಂಭಿಸಿದರು ಕೆಲವರು 'ಪಾಂಕಹ' ಸಂಸ್ಕೃತಿಯನ್ನು ತಿರಸ್ಕರಿಸಿದರು ಮತ್ತು ತೀವ್ರ ರೂಪದ ವೈರಾಗ್ಯವನ್ನು ಅಪರಿಸಿದರು ಅವರನ್ನು ಏನನ್ನೆಲಾಗುತ್ತದೆಯೆಂದರೆ :

- (1) ಕ್ಯಾಲಾಂಡಾಲ್ ಮತ್ತು ಮೂಲಾಂಗ್ಸ್
- (2) ಬೋಜಾಸ್ ಮತ್ತು ಹಾಲಿಫೇಸ್
- (3) ಪೀರ್ ಮತ್ತು ಮರ್ಸಿಫ್
- (4) ದಾ-ವೈರ ಮತ್ತು ಮುರಿದ

Options :

212807119225: 1  
212807119226: 2  
212807119227: 3  
212807119228: 4

Question Number : 111 Question Id : 21280719507 Question Type : MCQ Option Shuffling : No Is Question Mandatory : No Calculator : None  
Response Time : N.A Think Time : N.A Minimum Instruction Time : 0

Correct Marks : 5 Wrong Marks : 1

Question Key Details :

Key	Value
Comprehension	MCQ

ಮಧ್ಯಯುಗೀನ ಕಾಛ್ಛಲೀಲ ಸೂಫೀ ಚಛ್ಛವಛ್ಛೀತ ಕಾಛ್ಛೀ ಗುಛ್ಛ ವಾಛ್ಛಾಂಛಾಂನೀ ಸೂಫೀ ಆಛ್ಛಶಾಂಛೀ ಮೂಲಗಾಂಛೀ ವೀವೀಚನಾಂಛೀ ಆಛ್ಛಾಛೀತ ಚಛ್ಛವಛ್ಛೀ ಸುಛ್ಛ ಕೆಲಛ್ಛಾ. ಅನೇಕಾಂಛೀ 'ಸೂಛ್ಛಾನಕವಾ' ಸಂಸ್ಕೃತೀಚಾ ತೀರಸ್ಕಾರ ಕೆಲಾ ಆಛ್ಛೀ ಸಂಛ್ಛಾಸಾಚೆ ಪರಾಕೂಡೆಚೆ ಸ್ವರೂಪ ಸ್ವೀಕಾರಲೆ. ಲಛ್ಛಾಂಛೀ \_\_\_\_\_ ಮಛ್ಛಗುನ ಆೂಛ್ಛಛಛಲೆ ಜಾತೆ.

- (1) ಕಲೀದರ ಆಛ್ಛೀ ಮಲಾಂಗ
- (2) ಛೂಛಾ ಆಛ್ಛೀ ಛಾಲೀಫಾ
- (3) ಪೀರ ಆಛ್ಛೀ ಮುಶೀದ
- (4) ಬಶರೀಛಾ ಆಛ್ಛೀ ಮುರೀದ

Options :

212807119225: 1  
212807119226: 2  
212807119227: 3  
212807119228: 4

Question Number : 111 Question Id : 21280719507 Question Type : MCQ Option Shuffling : No Is Question Mandatory : No Calculator : None  
Response Time : N.A Think Time : N.A Minimum Instruction Time : 0

Correct Marks : 5 Wrong Marks : 1

Question Key Details :

Key	Value
Comprehension	MCQ

മധ്യകാല സൂഫിസത്തിൽ തീവ്രമായ സൂഫിസത്തിന്റെ പ്രകടനം നടന്നിരുന്നു. എന്നാൽ ഖാൻഖ് സംസ്കാരവുമായി ബന്ധപ്പെട്ട് അതിതീവ്രമായ പ്രകടനം നടത്തിയവർ അറിയപ്പെട്ടത് :

- (1) ഖുലാൻറാസ് ഉം മലംഗാസ് ഉം
- (2) ഖോജാസ് ഉം ഖലീഫകളും
- (3) ഫീർ ഉം മുൾഷിദ്യം
- (4) ബാ ഷരിയയും മുറീദ്യം

Options :

- 212807119225 1
- 212807119226 2
- 212807119227 3
- 212807119228 4

Question Number : 212 Question Id : 21280719807 Question Type : MCQ Option Shuffling : No Is Question Mandatory : No Calculator : None Response Time : N.A Think Time : N.A Minimum Instruction Time : 0

Correct Marks : 5 Wrong Marks : 1

Question Key Details :

Key	Value
Comprehension	MCQ

നവമുദ്രയെ സൂഫി പരിഷ്കരണ, മിമി രഹസ്യവാദി സൂഫി ചിന്താ വിശേഷണ അഭിപ്രായം അർത്ഥം ഉൾക്കൊള്ളുന്നു. അവർക്കു തന്നെ ഉള്ള പഴയതിൽ ഉൾപ്പെടെ മറ്റുള്ളവർ ഉൾപ്പെടെ നവമുദ്രയെ തിരഞ്ഞെടുക്കുന്നതിന് പാടില്ല. യഥാർത്ഥ രഹസ്യം ഉൾപ്പെടെ ഉണ്ട്.

- (1) ഭൂമിയുടെ പഴം നാമം
- (2) മേൽ പഴം ഉൾപ്പെടെ
- (3) മിമി പഴം ഉൾപ്പെടെ
- (4) രാ-മിമി പഴം ഉൾപ്പെടെ

Options :

- 212807119225 1
- 212807119226 2
- 212807119227 3
- 212807119228 4

Question Number : 212 Question Id : 21280719807 Question Type : MCQ Option Shuffling : No Is Question Mandatory : No Calculator : None Response Time : N.A Think Time : N.A Minimum Instruction Time : 0

Correct Marks : 5 Wrong Marks : 1

Question Key Details :

Key	Value
Comprehension	MCQ

മുഹമ്മദ് ਦੇ ਸੂਫੀ ਵਾਤਾਵਰਣ ਵਿਚ ਸੂਫੀ ਮੱਤ ਤੇ ਅਧਾਰਤ ਬਹੁਤ ਸਾਰੀਆਂ ਰੂਹਾਨੀ ਲਹਿਰਾਂ ਚੱਲੀਆਂ। ਬਹੁਤ ਸਾਰਿਆਂ ਨੇ ਖਾਕਾਹ ਸਭਿਆਚਾਰ ਤੋਂ ਨਫਰਤ ਕੀਤੀ ਅਤੇ ਸਾਧਨਾਂ ਦੇ ਵੱਖਰੇ ਰੂਪਾਂ ਦਾ ਅਧਿਐਨ ਕੀਤਾ। ਉਹ ਜਾਣੇ ਜਾਂਦੇ ਸਨ :

- (1) ਕਲੰਦਰ ਅਤੇ ਮਲੰਗ
- (2) ਖੋਜੀ ਅਤੇ ਖਲੀਫਾ
- (3) ਪੀਰ ਅਤੇ ਮੁਰਸ਼ਦ
- (4) ਬਾ-ਬਰਾ ਅਤੇ ਮੁਰੀਦ

Options :

- 212807119225 1
- 212807119226 2
- 212807119227 3
- 212807119228 4

Question Number : 112 Question Id : 21280719225 Question Type : MCQ Option Shuffling : No Is Question Mandatory : No Calculator : None  
Response Time : N.A Think Time : N.A Minimum Instruction Time : 0

Correct Marks : 5 Wrong Marks : 1

Question Key Details :

Key	Value
Comprehension	MCQ

இடைக்காலத்தின் சூ.பி சூழலில், சில ஞானிகள், சூ.பி கோட்பாடுகளின் முழுமையான விளக்கத்தின் அடிப்படையில் இயக்கங்களைத் தொடங்கினர். பலரும் கள்காஹ கலாச்சாரத்தை இழிவுபடுத்தி, தீவிர துறநிலையைத் தழுவினர். அவர்கள் எவ்வாறு அறியப்படுகின்றனர் ?

- (1) கலண்டர்கள் மற்றும் மலங்கர்கள்
- (2) கோஜாஸ் மற்றும் கலீப்பாக்கள்
- (3) பீர் மற்றும் முர்ஷித்
- (4) பா-ஷரிபா மற்றும் சூரித்

Options :

212807119225 : 1

212807119226 : 2

212807119227 : 3

212807119228 : 4

Question Number : 112 Question Id : 21280719226 Question Type : MCQ Option Shuffling : No Is Question Mandatory : No Calculator : None  
Response Time : N.A Think Time : N.A Minimum Instruction Time : 0

Correct Marks : 5 Wrong Marks : 1

Question Key Details :

Key	Value
Comprehension	MCQ

மெய்யகால சூ.பி வாதாபரலில், சூ.பி ஆபரூப மூல விவரண ஆதாரంగా கோபி ரஹஸ்ய ஆபரூபனலு திராரஹம ய்யாயு. கோபி 'காஹ' ஸஹஸ்திஸி திரஹஸ்திரிஹாயு மரலயு ஹஸ்தஹ விபரீத ரூபஹி கமஸிஹாயு தீஸிஸி விமலஹு ?

- (1) ஹலஹாயு மரலயு மலஹு
- (2) கோபு மரலயு கலிஹு
- (3) பீஹு மரலயு மரலு
- (4) ஹ-ஹரலயு மரலயு மலு

Options :

212807119225 : 1

212807119226 : 2

212807119227 : 3

212807119228 : 4

Question Number : 112 Question Id : 21280719227 Question Type : MCQ Option Shuffling : No Is Question Mandatory : No Calculator : None  
Response Time : N.A Think Time : N.A Minimum Instruction Time : 0

Correct Marks : 5 Wrong Marks : 1

Question Key Details :

Key	Value
Comprehension	MCQ

وسطی دور کے صوفی ماحول میں کچھ فقہوں نے صوفی مقاصد حصول کی انتہا پسندانہ تجربے کی تحریکیں چلائییں۔ کچھ نے خانقاہوں کے پتھر کو کھارت سے دیکھا اور شدید رہبانیت کو اپنایا۔  
وہ کہلائے جاتے تھے۔

- (1) قلندر اور ملنگ (Qalandars and Malangs)
- (2) خواجا اور خلیفہ (Khojas and Khaliphas)
- (3) پی اور مرشد (Pir and Murshid)
- (4) باشریہ اور مرید (Ba-sharia and Murid)

Options :

- 212807119225 1
- 212807119226 2
- 212807119227 3
- 212807119228 4

Question Number : 213 Question Id : 21280729806 Question Type : MCQ Option Shuffling : No Is Question Mandatory : No Calculator : None  
Response Time : N.A Think Time : N.A Minimum Instruction Time : 0  
Correct Marks : 5 Wrong Marks : 1

Question Key Details :

Key	Value
Comprehension	MCQ

'Virashaiva' or 'Lingayat' tradition of 'Bhakti' was led by Basavanna in the 12<sup>th</sup> century Karnataka. Basavanna was the Brahmin Minister in the court of which of the following ruler :

- (1) Chola
- (2) Kalachuri
- (3) Pallava
- (4) Pandya

Options :

- 212807119229 1
- 212807119230 2
- 212807119231 3
- 212807119232 4

Question Number : 213 Question Id : 21280729806 Question Type : MCQ Option Shuffling : No Is Question Mandatory : No Calculator : None  
Response Time : N.A Think Time : N.A Minimum Instruction Time : 0  
Correct Marks : 5 Wrong Marks : 1

Question Key Details :

Key	Value
Comprehension	MCQ

कर्नाटक में 12 वीं शताब्दी में भक्ति की 'वीरशैव' एवं 'लिंगायत' परंपराओं का नेतृत्व बासवन्ना ने किया। बसवन्ना निम्न में से किसके राज दरबार में ब्रह्माण मंत्री थे :

- (1) चोल
- (2) कलाचुरी
- (3) पल्लव
- (4) पाण्ड्य

Options :

- 212807119229 1



212807119230 1  
212807119231 3  
212807119232 4

Question Number : 113 Question Id : 21280729808 Question Type : MCQ Option Shuffling : No Is Question Mandatory : No Calculator : None  
Response Time : N.A Think Time : N.A Minimum Instruction Time : 0

Correct Marks : 5 Wrong Marks : 1

Question Key Details :

Key	Value
Comprehension	MCQ

12 শতিকাতে কর্ণাটক বাসবমল দ্বারা ভক্তির ধাৰা হৈছিল “বীৰশিব” আৰু “লিঙ্গায়ত” প্ৰথা। কোনজন শাসকৰ তলত বাসবমল  
ব্ৰাহ্মণ মন্ত্ৰী আছিল ?

- (1) চোল
- (2) কাল্যাচুৰি
- (3) পল্লব
- (4) পাণ্ডা

Options :

212807119229 1  
212807119230 1  
212807119231 3  
212807119232 4

Question Number : 113 Question Id : 21280729808 Question Type : MCQ Option Shuffling : No Is Question Mandatory : No Calculator : None  
Response Time : N.A Think Time : N.A Minimum Instruction Time : 0

Correct Marks : 5 Wrong Marks : 1

Question Key Details :

Key	Value
Comprehension	MCQ

বসবমল দ্বাদশ শতাব্দীতে কর্ণাটকে ভক্তিবাদের “বীৰশৈব” বা লিঙ্গায়ত ঐতিহ্যের নেতৃত্ব দিয়েছিলেন।

ব্ৰাহ্মণ মন্ত্ৰী বসবমল নিচে উল্লেখিত কোন শাসকের সভায় ছিলেন ?

- (1) চোল
- (2) কাল্যাচুৰি
- (3) পল্লব
- (4) পাণ্ডা

Options :

212807119229 1  
212807119230 1  
212807119231 3  
212807119232 4

Question Number : 113 Question Id : 21280729808 Question Type : MCQ Option Shuffling : No Is Question Mandatory : No Calculator : None  
Response Time : N.A Think Time : N.A Minimum Instruction Time : 0

Correct Marks : 5 Wrong Marks : 1

Question Key Details :

Key	Value
Comprehension	MCQ

12 वी सदीमा कर्णाटकमा 'भक्ति' नी 'वीरशैव' अने 'लिंगायत' परंपरानी बसवत्रा द्वारा शरूयात यई हती बसवत्रा अे नीयेना शासकोमांधी कोना हलबालमां भंरी हतो :

- (1) नील
- (2) कलचुरी
- (3) पल्लव
- (4) पांडव

Options :

- 212907119229 1  
212907119230 2  
212907119231 3  
212907119232 4

Question Number : 113 Question Id : 21290729808 Question Type : MCQ Option Shuffling : No Is Question Mandatory : No Calculator : None  
Response Time : N.A Think Time : N.A Minimum Instruction Time : 0

Correct Marks : 5 Wrong Marks : 1

Question Key Details :

Key	Value
Comprehension	MCQ

बसवण्णनवरु कनारुडकरुतु 12नै शसमरुनरुतु वरुधरुतु अवधरुतु 'लीगरुगत' शरुदुतुतुतु 'वुरुकु'तुतुतुतु मरुनुनुडकुडरुतु. उरु केडु/रुन यरुतुव अवडडड शरुगरुड अवशुतुनरुतुतु बसवण्णनवरुतु वुरुधरुतुतु मरुनुनुतुतुतु/दुडरुतु ?

- (1) वीरशैव
- (2) कलचुरी
- (3) पल्लव
- (4) पांडव

Options :

- 212907119229 1  
212907119230 2  
212907119231 3  
212907119232 4

Question Number : 113 Question Id : 21290729808 Question Type : MCQ Option Shuffling : No Is Question Mandatory : No Calculator : None  
Response Time : N.A Think Time : N.A Minimum Instruction Time : 0

Correct Marks : 5 Wrong Marks : 1

Question Key Details :

Key	Value
Comprehension	MCQ

कनरुनरुडकुरुतु 12 वुतु शसकरुतुतुतु बसवणुणुतुतु यरुतुतुतु नैगुतुवरुखरुतुतुतुतुतुतु भकुतुतुतुतु बडुडुवरुतुतुतुतुतुतु 'वीरशुतुव' कुतुवरुतु 'लुतुगरुगत' शरुडरुतुतु सुरुडु डरुलुतुतु. कुतुणरुतुतु शरुसकुरुतुतु डरुवरुतुतु बसवणुणुतुतु बुरुधरुणुतु मंनुतुतु हुतुतु ?

- (1) वीरशैव
- (2) कलचुरी
- (3) पल्लव
- (4) पांडव

Options :

- 212907119229 1  
212907119230 2  
212907119231 3  
212907119232 4

Question Number : 113 Question Id : 21280719229 Question Type : MCQ Option Shuffling : No Is Question Mandatory : No Calculator : None  
Response Time : N.A Think Time : N.A Minimum Instruction Time : 0

Correct Marks : 5 Wrong Marks : 1

Question Key Details :

Key	Value
Comprehension	MCQ

വീരശൈവ ഭക്തിയിലെ ലിംഗായത്ത് പാരമ്പര്യം പന്ത്രണ്ടാം നൂറ്റാണ്ടിൽ കുർബ്ബാനകയിൽ പിൻതുടർന്ന ഖാസവണ്ണ ആരുടെ രാജ്യസഭയിലെ ബ്രഹ്മണ മന്ത്രി ആയിരുന്നു ?

- (1) ചോള
- (2) കാലചുരി
- (3) പല്ലവ
- (4) പാണ്ഡ്യ

Options :

21280719229 : 1

21280719230 : 2

21280719231 : 3

21280719232 : 4

Question Number : 113 Question Id : 21280719805 Question Type : MCQ Option Shuffling : No Is Question Mandatory : No Calculator : None  
Response Time : N.A Think Time : N.A Minimum Instruction Time : 0

Correct Marks : 5 Wrong Marks : 1

Question Key Details :

Key	Value
Comprehension	MCQ

12 ജനമാരെ ഒഴിഞ്ഞുപോകാതെ 'കാമരൂപ' / 'കിഷക' കവിതയുടെ വലിയൊരു ഭാഗം എഴുതുക | ഈ കവിത എഴുതുക  
കാമരൂപ നാമം :

- (1) രാമ
- (2) കമരൂപ
- (3) കമരൂപ
- (4) കാമരൂപ

Options :

21280719805 : 1

21280719806 : 2

21280719807 : 3

21280719808 : 4

Question Number : 113 Question Id : 21280719805 Question Type : MCQ Option Shuffling : No Is Question Mandatory : No Calculator : None  
Response Time : N.A Think Time : N.A Minimum Instruction Time : 0

Correct Marks : 5 Wrong Marks : 1

Question Key Details :

Key	Value
Comprehension	MCQ

'ਬਸਵਾਨਾ' ਨੇ 12ਵੀਂ ਸਦੀ ਵਿਚ ਕਰਨਾਟਕ ਵਿਚ 'ਵੀਰਸ਼ੈਵ' ਜਾਂ 'ਲਿੰਗਾਇਤ' ਇਕ ਭਗਤੀ ਦੀ ਲਹਿਰ ਦੀ ਅਗਵਾਈ  
ਕੀਤੀ | ਹੇਠ ਲਿਖਿਆਂ ਵਿਚੋਂ ਕਿਹੜੇ ਸ਼ਾਬਦ ਦੇ ਰਾਜ ਦੀ ਅਦਾਲਤ ਵਿਚ ਬਸਵਾਨਾ ਬੁਰਮਟ ਮੰਤਰੀ ਸੀ :

- (1) ਚੋਲ
- (2) ਕਾਲਚੂਰੀ
- (3) ਪੱਲਵ
- (4) ਪਾਂਡੇ

Options :

212807119229 1

212807119230 2

212807119231 3

212807119232 4

Question Number : 113 Question Id : 21280719806 Question Type : MCQ Option Shuffling : No Is Question Mandatory : No Calculator : None  
Response Time : N.A Think Time : N.A Minimum Instruction Time : 0

Correct Marks : 5 Wrong Marks : 1

Question Key Details :

Key	Value
Comprehension	MCQ

കർനാടകയിൽ 12 -ആം നൂറ്റാണ്ടിൽ 'വീര ശൈവം' അല്ലെങ്കിൽ 'വിങ്കായക്' എന്ന പാരമ്പര്യ പക്തി മാർക്കകൃത പടവണ്ണാ ത്രാഡിഷണാ . പിരാംമണ്ഡ പടവണ്ണാ എന്ത അടിസ്ഥാനിൻ അടവയിൽ അഥട്കരാക ഇരുന്നതാർ.

- (1) ശോഭാർകൾ
- (2) കലാകൃതി
- (3) പല്ലവർകൾ
- (4) പാണ്ടിപാർകൾ

Options :

212807119229 1

212807119230 2

212807119231 3

212807119232 4

Question Number : 213 Question Id : 21280719806 Question Type : MCQ Option Shuffling : No Is Question Mandatory : No Calculator : None  
Response Time : N.A Think Time : N.A Minimum Instruction Time : 0

Correct Marks : 5 Wrong Marks : 1

Question Key Details :

Key	Value
Comprehension	MCQ

12వ ശതാബ്ദ കർണാടകിൽ തടവണ്ണ നായകത്വംിൽ 'വീരശൈവ' രീതാ മിറാഡ 'ഭക്തി' സാമൂഹായം സാറാ. ഫ രാജ സഭിൽ തടവണ്ണ ത്രാഡിഷണ മന്ത്രാ കടന്നാ ?

- (1) വീഴ
- (2) കലാകൃതി
- (3) പല്ലവ
- (4) പാണ്ടി

Options :

212807119229 1

212807119230 2

212807119231 3

212807119232 4

Question Number : 113 Question Id : 21280719806 Question Type : MCQ Option Shuffling : No Is Question Mandatory : No Calculator : None  
Response Time : N.A Think Time : N.A Minimum Instruction Time : 0

Correct Marks : 5 Wrong Marks : 1

Question Key Details :

Key	Value
Comprehension	MCQ

ویراشایو (Virashaiva) یا بھکتی کی لٹریچر کی روایت کی باسوانا (Basavanna) نے بارہویں صدی میں کرناٹک میں بنیاد ڈالی۔ یہ اسوانا کس حکمران کے  
 کورٹ میں برائمن وزیر تھا۔

(Chola) چولا (1)

(Kalachuri) کالاچوری (2)

(Pallava) پلاوا (3)

(Pandya) پاندیا (4)

Options :

212807119229 1

212807119230 2

212807119231 3

212807119232 4

Question Number : 114 Question Id : 21280729809 Question Type : MCQ Option Shuffling : No Is Question Mandatory : No Calculator : None  
 Response Time : N.A Think Time : N.A Minimum Instruction Time : 0

Correct Marks : 5 Wrong Marks : 1

Question Key Details :

Key	Value
Comprehension	MCQ

Which of the following are the correct statements with reference to early traditions of 'Bhakti' ?

- (A) The language of the hymns sung by Alvar and Nayanar Bhakti saints was Tamil.
- (B) One of the major anthologies of compositions by the Alvars, named as 'Nalayira Divyaprabandham' was frequently described as the 'Tamil Veda'.
- (C) Women saint Andal was a devotee of Vishnu and Karaikkal Ammaiyar, a devotee of Shiva.
- (D) Alvar and Nayanar traditions have also been seen as a movement of protest against the caste system and dominance and Brahmanas.
- (E) The relation of Alvar and Nayanar Bhakti tradition with Buddhism and Jainism was extremely amicable and harmonious.

Choose the correct answer and from the options given below :

- (1) (A), (B), (C), (E) only
- (2) (B), (C), (D), (E) only
- (3) (A), (C), (D), (E) only
- (4) (A), (B), (C), (D) only

Options :

212807119233 1

212807119234 2

212807119235 3

212807119236 4

Question Number : 114 Question Id : 21280729809 Question Type : MCQ Option Shuffling : No Is Question Mandatory : No Calculator : None  
 Response Time : N.A Think Time : N.A Minimum Instruction Time : 0

Correct Marks : 5 Wrong Marks : 1

Question Key Details :

Key	Value
Comprehension	MCQ

प्रारंभिक 'भक्ति' परम्परा के संदर्भ में निम्न में से कौन-से कथन सही हैं ?

- (A) अलवार और नयनार भक्ति संज्ञे द्वारा गाये जाने वाले भजनों की भाषा तमिल थी।
- (B) अलवारों द्वारा रचित प्रसिद्ध संग्रह जिसका नाम 'नल्यिरादिव्यप्रबंधम्' है प्रायः 'तमिल वेद' के रूप में वर्णित किया जाता है।
- (C) स्त्री भक्त अंडाल विष्णु की उपासक थी और करइक्काल अम्मइयार शिव भक्त।
- (D) अलवार और नयनार परम्पराएं जाति व्यवस्था, और ब्राह्मणों के प्रभुत्व के विरोध में एक आंदोलन थीं।
- (E) अलवार तथा नयनार के बौद्ध और जैन धर्म के साथ संबंध अत्यंत सौहार्दपूर्ण एवं मेल-मिलाप के थे।

नीचे दिए गए विकल्पों में से सही उत्तर का चयन कीजिए :

- (1) केवल (A), (B), (C), (E)
- (2) केवल (B), (C), (D), (E)
- (3) केवल (A), (C), (D), (E)
- (4) केवल (A), (B), (C), (D)

Options :

- 212807119233 1
- 212807119234 2
- 212807119235 3
- 212807119236 4

Question Number : 214 Question Id : 21280719809 Question Type : MCQ Option Shuffling : No Is Question Mandatory : No Calculator : None  
Response Time : N.A Think Time : N.A Minimum Instruction Time : 0

Correct Marks : 5 Wrong Marks : 1

Question Key Details :

Key	Value
Comprehension	MCQ

তলৰ কোনটো 'ভক্তি'ৰ ওপৰত প্ৰাথমিক পৰম্পৰাৰ শুদ্ধ উক্তি ?

- (A) আলাবাব আৰু নয়নাৰে গোৱা ভক্তি গীতসমূহ আছিল তামিল ভাষাত।
- (B) আলাবাবৰ দ্বাৰা অন্ততম প্ৰধান ৰচনাল সংকলন, যাৰ নাম 'নাল্যিৰা বিদ্যপ্ৰভাবন্ধম'ক 'তামিল বেদ' বুলি সমানাই বৰ্ণনা কৰা হৈছে।
- (C) মহিলা সন্ন্যাসিনী অন্দাল আছিল ভগৱান বিষ্ণু আৰু কৰইক্কাল আন্মাইয়াৰ ভক্ত, এজনী শিবৰ ভক্ত।
- (D) আলাবাব আৰু নয়নাৰ পৰম্পৰাক জাতিভেদ প্ৰথা, অস্বিপত্য আৰু ব্ৰাহ্মণৰ প্ৰতিবাদৰ আন্দোলন হিচাপে দেখা যায়।
- (E) অলাবাব আৰু নয়নাৰ সম্পৰ্ক ভক্তি পৰম্পৰাত বৌদ্ধ আৰু জৈন ধৰ্মৰ লগত সম্পূৰ্ণ বন্ধুত্বপূৰ্ণ আৰু হাস্যপদক আছিল।

তলত দিয়া বিকল্পসমূহৰপৰা শুদ্ধ উক্তবটো বাছি উলিওৱা :

- (1) কেবল (A), (B), (C), আৰু (E)
- (2) কেবল (B), (C), (D), আৰু (E)
- (3) কেবল (A), (C), (D), আৰু (E)
- (4) কেবল (A), (B), (C), আৰু (D)

Options :

- 212807119233 1
- 212807119234 2
- 212807119235 3
- 212807119236 4

Question Number : 114 Question Id : 21280719233 Question Type : MCQ Option Shuffling : No Is Question Mandatory : No Calculator : None  
Response Time : N.A Think Time : N.A Minimum Instruction Time : 0

Correct Marks : 5 Wrong Marks : 1

Question Key Details :

Key	Value
Comprehension	MCQ

'ભક્તિ' ર આમિ મતદર્શ અનુયાયી નિચે ઉલ્લેખિત કોન કિવુતિશુલિ સઠિક ?

- (A) આલવાર ઓ નાયનાર ભક્તિ સાધકરા તમિલ ભાષાએ શ્લોક ઉચ્ચારણ કરાતેન।  
(B) આલવારનેર દ્વારા સંકલિત અનાતમ એકાદિ સંકલન ગ્રંથ— 'નાલયિરા દિવાપ્રબંધમ' પ્રાયાશએ 'તમિલ વેદ' વણે વર્ણિત હત।  
(C) મહિલા સંસ્ત અમ્બલા હિલેન વિસ્ફુર ઉપાસક ઓ કારિક્કલ આશ્વાયિયાર હિલેન શિવેર ઉપાસક।  
(D) આલવાર ઓ નાયનાર ઈતિહાસ દ્વારા જ્ઞાતિ વાવહર ઓ વ્રાહ્મણનેર આધિપત્યેર વિરુદ્ધએ એકાદિ આંદોલન હિસેવે સેવા હય।  
(E) ભક્તિ આંદોલન આલવાર ઓ નાયનારનેર સંસે ભૈષ્ણક ઓ જૈનનેર સંસે સંસ્પર્ક શાન્તિપૂર્ણ ઓ સુમધુર।

નિચેર વિકલ્પશુલિ થેકે સઠિક ઉત્તરશિ વેર કર :

- (1) કેવલમાત્ર (A), (B), (C), એવં (E)  
(2) કેવલમાત્ર (B), (C), (D), એવં (E)  
(3) કેવલમાત્ર (A), (C), (D), એવં (E)  
(4) કેવલમાત્ર (A), (B), (C), એવં (D)

Options :

212807119233 1

212807119234 2

212807119235 3

212807119236 4

Question Number : 114 Question Id : 21280719233 Question Type : MCQ Option Shuffling : No Is Question Mandatory : No Calculator : None  
Response Time : N.A Think Time : N.A Minimum Instruction Time : 0

Correct Marks : 5 Wrong Marks : 1

Question Key Details :

Key	Value
Comprehension	MCQ

'ભક્તિ' ની સરૂઆતની પરંપરાના સંદર્ભએ નીચે આપેલા વિધાનોમાંથી કયુ સાચુ છે ?

- (A) ભક્તિ સંતો અલવાર અને નયનાર દ્વારા ગાવામાં આવેલા ભજનો ની ભાષા તમિલ હતી.  
(B) અલવાર દ્વારા રચાયેલી રચનાઓના મુખ્ય કાવ્યસંગ્રહમાંનુ એક લેનુ નામ 'નાલયીરા દીવ્યપ્રબંધમ' છે, જેને વાસંવાર 'તમિલ વેદ' તરીકે ઓળખવામાં આવે છે.  
(C) મહિલા સંત અંડાલ એ વિષ્ણુના અને કરૈયકાલ એમૈયાર એ શીવના ભક્ત હતાં.  
(D) અલવાર અને નયનાર પરંપરાને બલિપ્રતા અને બ્રાહ્મણોના પ્રભાવ વિરુદ્ધની ચળવળ તરીકે પણ જ્ઞેવામાં આવે છે.  
(E) અલવાર અને નયનાર ભક્તિ પરંપરાનો બૌદ્ધ અને જૈન ધર્મ સાથેનો સંબંધ અત્યંત સૌહાર્દપૂર્ણ અને સુમેળભર્યો હતો.

નીચે આપેલા વિકલ્પોમાંથી સાચો ઉત્તર શોધો :

- (1) ફક્ત (A), (B), (C) અને (E)  
(2) ફક્ત (B), (C), (D) અને (E)  
(3) ફક્ત (A), (C), (D) અને (E)  
(4) ફક્ત (A), (B), (C) અને (D)

Options :

212807119233 1

212807119234 2

212807119235 3

212807119236 4

Question Number : 214 Question Id : 21280729809 Question Type : MCQ Option Shuffling : No Is Question Mandatory : No Calculator : None  
Response Time : N.A Think Time : N.A Minimum Instruction Time : 0

Correct Marks : 5 Wrong Marks : 1

Question Key Details :

Key	Value
Comprehension	MCQ

ಕೆಳಗಿನ ಯಾವ ಹೇಳಿಕೆಗಳು ಆರಂಭಿಕ 'ಭಕ್ತಿ' ಪದ್ಧತಿಗಳಿಗೆ ಸಂಬಂಧಿಸಿದಂತೆ ಸರಿಯಾಗಿವೆ ?

- (A) ಆಳ್ವಾರ್ ಮತ್ತು ನಾಯನಾರ್ ಭಕ್ತಿ ಸಂಕಲನ ವೇದದ ಸೋತ್ರಗಳನ್ನು ಹಾಡಿರುವ ಭಾಷೆಯು ತಮಿಳಾಗಿದೆ.
- (B) ಆಳ್ವಾರ್‌ಗಳಿಂದ ಸಂಯೋಜಿಸಿದ ಒಂದು ಪ್ರಧಾನ ಕವನ ಸಂಕಲನವನ್ನು 'ನಾಳಾಯರ ದಿವ್ಯ ಪ್ರಬಂಧಮ್' ಎಂದು ಹೆಸರಿಸಲಾಗಿದೆ. ಅದು ಆಗಾಗ್ಗೆ ತಮಿಳು ವೇದವನ್ನು ವರ್ಣಿಸುತ್ತದೆ.
- (C) ಮಹಿಳಾ ಸನ್ಯಾಸಿ ಅಂಡೆಳರು ಒಬ್ಬ ವಿಷ್ಣುವಿನ ಭಕ್ತಳಾಗಿದ್ದಳು ಮತ್ತು ಕರೈಕ್ಕಲ್ ಆಮ್ಮೆಯಾರ ಒಬ್ಬ ಶಿವನ ಭಕ್ತಳಾಗಿದ್ದಳು.
- (D) ಆಳ್ವಾರ್ ಮತ್ತು ನಾಯನಾರ್ ಪದ್ಧತಿಗಳು ಜಾತಿ ವ್ಯವಸ್ಥೆ ಮತ್ತು ಪ್ರಬಲತೆ ಮತ್ತು ದ್ರಾಷ್ಟ್ಯದ ವಿರುದ್ಧದ ಪ್ರತಿಭಟನಾ ಚಳುವಳಿ ಎಂದು ಕಾಣಬಹುದು.
- (E) ಆಳ್ವಾರ್ ಮತ್ತು ನಾಯನಾರ್ ಭಕ್ತಿ ಪದ್ಧತಿಯ ಬುದ್ಧಿ ಸಂಪತ್ತು ಜೈನೀಸಂ ಜೊತೆಗಿನ ಸಂಬಂಧವು ಅತ್ಯಂತ ಸೌಹಾರ್ದ ಮತ್ತು ಸಹಮತವುಳ್ಳದ್ದಾಗಿದೆ.

ಕೆಳಗೆ ನೀಡಿರುವ ಆಯ್ಕೆಗಳಿಂದ ಸರಿಯಾದ ಉತ್ತರವನ್ನು ಆರಿಸಿ.

- (1) (A), (B), (C), ಮತ್ತು (E) ಮಾತ್ರ
- (2) (B), (C), (D), ಮತ್ತು (E) ಮಾತ್ರ
- (3) (A), (C), (D), ಮತ್ತು (E) ಮಾತ್ರ
- (4) (A), (B), (C), ಮತ್ತು (D) ಮಾತ್ರ

Options :

212807119233 1

212807119234 2

212807119235 3

212807119236 4

Question Number : 214 Question Id : 21280729809 Question Type : MCQ Option Shuffling : No Is Question Mandatory : No Calculator : None  
Response Time : N.A Think Time : N.A Minimum Instruction Time : 0

Correct Marks : 5 Wrong Marks : 1

Question Key Details :

Key	Value
Comprehension	MCQ



खालीलपैकी कोणती विधाने सुरुवातीच्या 'भक्ती' परंपरांच्या संदर्भात बरोबर आहेत ?

- (A) अलवार आणि नयनार संतांनी गायलेली कवने तमिळ भाषेत आहेत.
- (B) अलवार संतांनी रचलेल्या काव्यसंग्रहांपैकी महत्त्वाचा असलेला 'नजयार दिव्यप्रबंधम' याचे वर्णन बऱ्याचदा 'तमीळ वेद' असे केले जाते.
- (C) स्त्री संत अंदाल या विष्णुभक्त तर करैकल या शिवभक्त होत्या.
- (D) अलवार आणि नयनार परंपरांकडे जाति व्यवस्था आणि ब्राह्मणांचे वर्चस्व याला विरोध करणाऱ्या चळवळी म्हणून पाहिले जाते.
- (E) अलवार आणि नयनार भक्ती चळवळीचे बौद्ध धर्म आणि जैन धर्माशी परस्पर संबंध सीहादपूर्ण व मूसवादी होते.

खाली दिलेल्या पर्यायांमधून योग्य पर्याय निवडा :

- (1) फक्त (A), (B), (C) आणि (E)
- (2) फक्त (B), (C), (D) आणि (E)
- (3) फक्त (A), (C), (D) आणि (E)
- (4) फक्त (A), (B), (C) आणि (D)

Options :

112807119233 1

212807119234 2

312807119235 3

412807119236 4

Question Number : 214 Question Id : 21280729809 Question Type : MCQ Option Skuffling : No Is Question Mandatory : No Calculator : None

Response Time : N/A Think Time : N/A Minimum Instruction Time : 0

Correct Marks : 5 Wrong Marks : 1

Question Key Details :

Key	Value
Comprehension	MCQ

ഭക്തി പ്രസ്ഥാനവുമായി ബന്ധപ്പെട്ട് ശരിയായ പ്രസ്താവന ഏത് ?

- (A) തമിഴിലാണ് ഭക്തി മൂന്നുങ്ങൾ അർത്ഥവും നയനാരും നടത്തിയുരുന്നത.
- (B) ആൾവാർമാരുടെ പ്രമുഖ ഗ്രന്ഥമായ നളയിര ദിവ്യ പ്രബന്ധത്തിന്റെ ആവർത്തിച്ചുള്ള പിൻതുടർച്ച തമിഴ് വേദത്തിൽ ഉണ്ടായിരുന്നു.
- (C) വിശുദ്ധ സ്ത്രീയായിരുന്നു അമ്മാൾ വിഷ്ണുഭക്തയും, ശിവ ഭക്തയായിരുന്നത് കളരിക്കൽ അമ്മയാരുമായിരുന്നു.
- (D) ആൾവാർ, നയനാർ മൂന്നുപ്പർക്കൽ ഒരു ജാതിവ്യവസ്ഥക്കെതിരെ പ്രതിഷേധവും ബോധമേൽക്കു വെല്ലുവിളിയുമായിരുന്നു.
- (E) ശൈവ വൈഷ്ണവ ബുദ്ധജൈന ബന്ധം വളരെ ഉഷ്മളമായിരുന്നു.

ശരിയായത് ലിസ്റ്റിൽ നിന്നും തിരഞ്ഞെടുക്കുക:

- (1) (A) ഉം (B) ഉം (C) ഉം (E) ഉം മാത്രം
- (2) (B) ഉം (C) ഉം (D) ഉം (E) ഉം മാത്രം
- (3) (A) ഉം (C) ഉം (D) ഉം (E) ഉം മാത്രം
- (4) (A) ഉം (B) ഉം (C) ഉം (D) ഉം മാത്രം

Options :

212507119233 1  
212507119234 2  
212507119235 3  
212507119236 4

Question Number : 214 Question Id : 21250719809 Question Type : MCQ Option Shuffling : No Is Question Mandatory : No Calculator : None  
Response Time : N.A Think Time : N.A Minimum Instruction Time : 0

Correct Marks : 5 Wrong Marks : 1

Question Key Details :

Key	Value
Comprehension	MCQ

ନିମ୍ନଲିଖିତ ବାକ୍ୟଗୁଡ଼ିକ ମଧ୍ୟରୁ କେଉଁ ବାକ୍ୟଗୁଡ଼ିକ ପ୍ରାରମ୍ଭିକ ଇନ୍ଦ୍ରିୟ ପରୀକ୍ଷା/ପ୍ରଥା ସମ୍ପର୍କରେ ସଠିକ ଅଛି ?

- (A) ଅଳ୍ପବୟସ୍କ ଏବଂ ନୟନର ଇନ୍ଦ୍ରିୟ ସାଧୁମାନେ ଯେଉଁ ଭୃତ୍ତି ନାଶଥିଲେ ମଧ୍ୟ କାମିକ୍ କାଷାରେ ଥିଲା ।
- (B) ଅଳ୍ପବୟସ୍କମାନଙ୍କ ଦୂରା ନେତ୍ରାପାତ୍ରର 'ନାଲାରା ବିଦ୍ୟପ୍ରଧାନ' ଗାମିକ୍ ବେଦ ବୋଲି ବର୍ଣ୍ଣନା କରାଯାଇଥିଲା ।
- (C) ନାରୀ ସଜ ଅପକ୍ଷ ବିଶୁଦ୍ଧତା ଉଚ୍ଚ ଏବଂ ଉପାଦାନୀ ଅନୁଭବୀ, ଶିବକର ଉଚ୍ଚ ଥିଲେ ।
- (D) ଅଳ୍ପବୟସ୍କ ଏବଂ ନୟନର ପରୀକ୍ଷାକୁ ଇନ୍ଦ୍ରିୟ ଏବଂ ବ୍ରାହ୍ମଣମାନଙ୍କ ଅଧିକାରୀ ବିଭାଗରେ ଆୟୋଜନ ଭାବେ ମଧ୍ୟ ଦେଖାଯାଇଥିଲା ।
- (E) ଅଳ୍ପବୟସ୍କ ଏବଂ ନୟନର ଉଚ୍ଚ ପ୍ରକାର ସମ୍ପର୍କ ବୈଦ୍ୟମାନଙ୍କ ଏବଂ କୈନିଧର୍ମ ସହ ଶାନ୍ତିପୁର୍ଣ୍ଣ ଏବଂ ସୁସଜ୍ଜିତ ଥିଲା ।

ନିମ୍ନରେ ଦିଆଯାଇଥିବା ବିକଳ ମଧ୍ୟରୁ ସଠିକ୍ ଉତ୍ତରକୁ ନିର୍ଦ୍ଧାରଣ କରନ୍ତୁ ।

- (1) କେବଳ (A), (B), (C) ଏବଂ (E)
- (2) କେବଳ (B), (C), (D) ଏବଂ (E)
- (3) କେବଳ (A), (C), (D) ଏବଂ (E)
- (4) କେବଳ (A), (B), (C) ଏବଂ (D)

Options :

212507119233 1  
212507119234 2  
212507119235 3  
212507119236 4

Question Number : 214 Question Id : 21250719809 Question Type : MCQ Option Shuffling : No Is Question Mandatory : No Calculator : None  
Response Time : N.A Think Time : N.A Minimum Instruction Time : 0

Correct Marks : 5 Wrong Marks : 1

Question Key Details :

Key	Value
Comprehension	MCQ

'தொழிலாளர்' அல்லாதவர்களுக்கு உதவிக்காக உருவாக்கப்பட்ட கமிட்டி யின் பெயர் என்ன ?

- (A) தொழிலாளர் அல்லாதவர்களுக்கு உதவிக்காக உருவாக்கப்பட்ட கமிட்டி யின் பெயர் தாமசு கமிட்டி யாகும் .
- (B) தொழிலாளர் அல்லாதவர்களுக்கு உதவிக்காக உருவாக்கப்பட்ட கமிட்டி யின் பெயர் 'தாமசு கமிட்டி' யாகும் .
- (C) தொழிலாளர் அல்லாதவர்களுக்கு உதவிக்காக உருவாக்கப்பட்ட கமிட்டி யின் பெயர் 'தாமசு கமிட்டி' யாகும் .
- (D) தொழிலாளர் அல்லாதவர்களுக்கு உதவிக்காக உருவாக்கப்பட்ட கமிட்டி யின் பெயர் 'தாமசு கமிட்டி' யாகும் .
- (E) தொழிலாளர் அல்லாதவர்களுக்கு உதவிக்காக உருவாக்கப்பட்ட கமிட்டி யின் பெயர் 'தாமசு கமிட்டி' யாகும் .

கீழ்க்கண்ட விவரங்கள் கீழ்க்கண்டவற்றில் எவை சரியானவை :

- (1) (A), (B), (C) மற்றும் (E)
- (2) (B), (C), (D) மற்றும் (E)
- (3) (A), (C), (D) மற்றும் (E)
- (4) (A), (B), (C) மற்றும் (D)

Options :

- 212507119233 1
- 212507119234 2
- 212507119235 3
- 212507119236 4

Question Number : 114 Question Id : 21250719309 Question Type : MCQ Option Shuffling : No Is Question Mandatory : No Calculator : None

Response Time : N/A Think Time : N/A Minimum Instruction Time : 0

Correct Marks : 5 Wrong Marks : 1

Question Key Details :

Key	Value
Comprehension	MCQ

முந்தைய பத்தி பாரம்பரியம்/இயக்கங்கள் குறித்த கீழ்க்கண்டவற்றில் எவை சரியானவை ?

- (A) ஆழ்வார்கள் மற்றும் நாயன்மார்கள் தமிழில் இறைவனை பாடினர்.
- (B) ஆழ்வார்கள் இயற்றிய மாபெரும் இறைவனைகளில் ஒன்றான நாலாயிரத் திவ்ய பிரபந்தம், 'தமிழ் வேதம்' என்று வர்ணிக்கப்பட்டது.
- (C) பெண்துறவி ஆண்டாள் விஷ்ணுவையும், காரைக்கால் அம்மையார் சிவனையும் வழிபட்டனர்.
- (D) ஆழ்வார்கள் மற்றும் நாயன்மார்களின் இயக்கம், ஜாதி முறை மற்றும் பிராமண ஆதிக்கத்திற்கு எதிரானதாக காணப்பட்டது.
- (E) ஆழ்வார்கள் மற்றும் நாயன்மார்களின் பத்தி வழிபாட்டு முறையின் உறவு பெளத்தம் மற்றும் சமணத்துடன் மிகவும் கருமமாகவும் நல்லிணக்கத்துடனும் இருந்தன.

கீழ்க்கண்டவற்றில் விருப்பத் தெரிவுகளில் இருந்து சரியான விடையைத் தெரிவு செய்யவும்.

- (1) (A), (B), (C) மற்றும் (E) மட்டும்
- (2) (B), (C), (D) மற்றும் (E) மட்டும்
- (3) (A), (C), (D) மற்றும் (E) மட்டும்
- (4) (A), (B), (C) மற்றும் (D) மட்டும்

Options :

212807119233 1  
212807119234 2  
212807119235 3  
212807119236 4

Question Number : 214 Question Id : 21280719809 Question Type : MCQ Option Shuffling : No Is Question Mandatory : No Calculator : None  
Response Time : N.A Think Time : N.A Minimum Instruction Time : 0

Correct Marks : 5 Wrong Marks : 1

Question Key Details :

Key	Value
Comprehension	MCQ

పూర్వ భక్తి సాంప్రదాయానికి సంబంధించి కింది వాటిలో సరైన ప్రకటనలు ఏవి ?

- (A) అల్వార్ మరియు నాయనార్ భక్తి సాధువులు ఆశపించిన దేవస్థతుల భాష తమిళం
- (B) అల్వారులచే కూర్చబడిన ప్రధాన నీతి పద్యాలకు పేరు 'సలయార దివ్య ప్రబంధం' తరుసుగా 'తమిళ వేద' గా వివరించబడింది
- (C) విష్ణు భక్తురాలు స్త్రీ సాధువు అందాల్ మరియు కరైకుల్ అమ్మాయర్ శిష్యుని భక్తురాలు
- (D) అల్వార్ మరియు నాయనార్ సాంప్రదాయం అనేది కుల వ్యవస్థ మరియు ఆధిపత్యం మరియు బ్రాహ్మణులకు వ్యతిరేక అంబోకనగా చూడబడింది
- (E) అల్వార్ మరియు నాయనార్ భక్తి సాంప్రదాయం బాద్మల మరియు కైసులతో మంచి మైత్రి మరియు బక్యత సంబంధాన్ని కలిగి ఉంది

కింద ఇవ్వబడిన వికల్పాలలో సరైన సమాధానం ఎన్నుకోండి :

- (1) (A), (B), (C), మరియు (E) మాత్రమే
- (2) (B), (C), (D), మరియు (E) మాత్రమే
- (3) (A), (C), (D), మరియు (E) మాత్రమే
- (4) (A), (B), (C), మరియు (D) మాత్రమే

Options :

212807119233 1  
212807119234 2  
212807119235 3  
212807119236 4

Question Number : 214 Question Id : 21280719809 Question Type : MCQ Option Shuffling : No Is Question Mandatory : No Calculator : None  
Response Time : N.A Think Time : N.A Minimum Instruction Time : 0

Correct Marks : 5 Wrong Marks : 1

Question Key Details :

Key	Value
Comprehension	MCQ

بھکتی کی ابتدائی روایات کے متعلق مندرجہ ذیل میں سے کون سے بیانات درست ہیں۔

(A) بھکتی ساہوا اور نیا نار کے بھجن (شادی کے بھگوان کے گیت) کی زبان مکمل تھی۔

(B) اور (Alvar) کی ایک بڑی آفس سازی کی بیاض کو "نالاییرا دیوی پراباندھم" (Nalayira Divyaprabandham) کا نام دیا گیا۔

(C) مور قسیر آتمل (Andal) وشنو کی بھکت تھیں اور کیریکل امائیر (Karaikkal Ammaiyar) شیوا کی بھکت تھی۔

(D) اور (Alvar) اور نایار (Nalayir) کی روایت ذات پات اور برہمنوں کے خلاف احتجاج کو طور بھی رکھی گئی۔

(E) اور اور اپناری روایات اور بدھ اور جین ازم کا رشتہ سارگرا اور متفق تھا۔

دیئے گئے ذمروں میں سے درست جواب کا انتخاب کریں۔

(1) صرف (A), (B), (C) اور (E)

(2) صرف (B), (C), (D) اور (E)

(3) صرف (A), (C), (D) اور (E)

(4) صرف (A), (B), (C) اور (D)

Options :

212807119233\_1

212807119234\_2

212807119235\_3

212807119236\_4

Question Number : 115 Question Id : 21280719810 Question Type : MCQ Option Shuffling : No Is Question Mandatory : No Calculator : None

Response Time : N.A Think Time : N.A Minimum Instruction Time : 0

Correct Marks : 5 Wrong Marks : 1

Question Key Details :

Key	Value
Comprehension	MCQ

Who was the author of the text 'Amuktamalyada' ?

(1) Shudrak

(2) Krishnadeva Raya

(3) Harihara

(4) Harshavardhana

Options :

212807119237\_1

212807119238\_2

212807119239\_3

212807119240\_4

Question Number : 115 Question Id : 21280719810 Question Type : MCQ Option Shuffling : No Is Question Mandatory : No Calculator : None

Response Time : N.A Think Time : N.A Minimum Instruction Time : 0

Correct Marks : 5 Wrong Marks : 1

Question Key Details :

Key	Value
Comprehension	MCQ

'अमुकमलयद' के लेखक कौन थे?

- (1) शुद्धक
- (2) कृष्णदेव राय
- (3) हरिहर
- (4) हर्षवर्धन

Options :

- 212807119237 1  
212807119238 2  
212807119239 3  
212807119240 4

Question Number : 215 Question Id : 21280719810 Question Type : MCQ Option Shuffling : No Is Question Mandatory : No Calculator : None  
Response Time : N.A Think Time : N.A Minimum Instruction Time : 0

Correct Marks : 5 Wrong Marks : 1

Question Key Details :

Key	Value
Comprehension	MCQ

कौनसे "अमुकमलयद" का लेखक कवि हैं ?

- (1) शुद्धक
- (2) कृष्णदेव राय
- (3) हरिहर
- (4) हर्षवर्धन

Options :

- 212807119237 1  
212807119238 2  
212807119239 3  
212807119240 4

Question Number : 215 Question Id : 21280719810 Question Type : MCQ Option Shuffling : No Is Question Mandatory : No Calculator : None  
Response Time : N.A Think Time : N.A Minimum Instruction Time : 0

Correct Marks : 5 Wrong Marks : 1

Question Key Details :

Key	Value
Comprehension	MCQ

"अमुकमलयद" का लेखक कौनसे कवि हैं ?

- (1) शुद्धक
- (2) कृष्णदेव राय
- (3) हरिहर
- (4) हर्षवर्धन

Options :

- 212807119237 1  
212807119238 2  
212807119239 3  
212807119240 4

Question Number : 215 Question Id : 21280719810 Question Type : MCQ Option Shuffling : No Is Question Mandatory : No Calculator : None  
Response Time : N.A Think Time : N.A Minimum Instruction Time : 0

Correct Marks : 5 Wrong Marks : 1

Question Key Details :

Key	Value
Comprehension	MCQ

"अमुक्तमाल्यदा" पुस्तकना लेखक कोण हुना ?

- (1) शूद्रक
- (2) कृष्णदेवराय
- (3) हरीहर
- (4) हर्षवर्धन

Options :

- 212807119237 1  
212807119238 1  
212807119239 3  
212807119240 4

Question Number : 215 Question Id : 21280719810 Question Type : MCQ Option Shuffling : No Is Question Mandatory : No Calculator : None  
Response Time : N.A Think Time : N.A Minimum Instruction Time : 0

Correct Marks : 5 Wrong Marks : 1

Question Key Details :

Key	Value
Comprehension	MCQ

"अमुक्तमाल्यदा" लेखकना नाव कौन है ?

- (1) शुद्रक
- (2) कृष्णदेवराय
- (3) हरीहर
- (4) हर्षवर्धन

Options :

- 212807119237 1  
212807119238 1  
212807119239 3  
212807119240 4

Question Number : 215 Question Id : 21280719810 Question Type : MCQ Option Shuffling : No Is Question Mandatory : No Calculator : None  
Response Time : N.A Think Time : N.A Minimum Instruction Time : 0

Correct Marks : 5 Wrong Marks : 1

Question Key Details :

Key	Value
Comprehension	MCQ

"अमुक्तमाल्यदा" या ग्रंथाचे लेखक कोण आहेत ?

- (1) शूद्रक
- (2) कृष्णदेवराय
- (3) हरीहर
- (4) हर्षवर्धन

Options :

- 212807119237 1  
212807119238 3  
212807119239 3  
212807119240 4

Question Number : 215 Question Id : 21280719810 Question Type : MCQ Option Shuffling : No Is Question Mandatory : No Calculator : None  
Response Time : N.A Think Time : N.A Minimum Instruction Time : 0

Correct Marks : 5 Wrong Marks : 1

Question Key Details :

Key	Value
Comprehension	MCQ

അത്യകതമാലിക ആരാണ് എഴുതിയത് ?

- (1) ശ്യാമക
- (2) കൃഷ്ണദേവ റായ്
- (3) ഹരിഹര
- (4) ഹർഷവർദ്ധന

Options :

212807119237 1  
212807119238 1  
212807119239 3  
212807119240 4

Question Number : 215 Question Id : 21280719810 Question Type : MCQ Option Shuffling : No Is Question Mandatory : No Calculator : None  
Response Time : N.A Think Time : N.A Minimum Instruction Time : 0

Correct Marks : 5 Wrong Marks : 1

Question Key Details :

Key	Value
Comprehension	MCQ

'അനുകമ്പയ' വൃത്തം എഴുതിയത് ?

- (1) കൃഷ്ണ
- (2) കൃഷ്ണദേവ റായ്
- (3) ഉദ്ദേശ
- (4) ഉദ്ദേശ

Options :

212807119237 1  
212807119238 2  
212807119239 3  
212807119240 4

Question Number : 215 Question Id : 21280719810 Question Type : MCQ Option Shuffling : No Is Question Mandatory : No Calculator : None  
Response Time : N.A Think Time : N.A Minimum Instruction Time : 0

Correct Marks : 5 Wrong Marks : 1

Question Key Details :

Key	Value
Comprehension	MCQ

"ਅਮੁਕਤਨਾਇਕ" ਲਿਖਤ ਦਾ ਲੇਖਕ ਕੌਣ ਸੀ?

- (1) ਸੁਦਰਕ
- (2) ਕ੍ਰਿਸ਼ਨਾਦੇਵ ਰਾਏ
- (3) ਹਰੀਹਰ
- (4) ਹਰਸ਼ਵਰਧਨ

Options :

212807119237 1  
212807119238 1  
212807119239 3  
212807119240 4

Question Number : 215 Question Id : 21280719810 Question Type : MCQ Option Shuffling : No Is Question Mandatory : No Calculator : None  
Response Time : N.A Think Time : N.A Minimum Instruction Time : 0



Correct Marks : 5 Wrong Marks : 1

Question Key Details :

Key	Value
Comprehension	MCQ

விஜயநகரகரைய ஆண்ட கிருஷ்ணதேவ ராயர் எந்த அரச வம்சத்தை சேர்ந்தவர் ?

- (1) சலுவா
- (2) துளுவா
- (3) அரவீடு
- (4) சங்கமர

Options :

- 212507119237 1  
212507119238 2  
212507119239 3  
212507119240 4

Question Number : 115 Question Id : 21250719810 Question Type : MCQ Option Shuffling : No Is Question Mandatory : No Calculator : None  
Response Time : N.A Think Time : N.A Minimum Instruction Time : 0

Correct Marks : 5 Wrong Marks : 1

Question Key Details :

Key	Value
Comprehension	MCQ

"ஊமுக்தமாலயா" (Uuktanalyada) (Uuktanalyada) கருது ரவயாத வபரு ?

- (1) சுகுரு
- (2) கிருஷ்ண ராய
- (3) ஹரிஹர்
- (4) ஹர்ஷவர்தன

Options :

- 212507119237 1  
212507119238 2  
212507119239 3  
212507119240 4

Question Number : 115 Question Id : 21250719810 Question Type : MCQ Option Shuffling : No Is Question Mandatory : No Calculator : None  
Response Time : N.A Think Time : N.A Minimum Instruction Time : 0

Correct Marks : 5 Wrong Marks : 1

Question Key Details :

Key	Value
Comprehension	MCQ

Amuktanalyada (Amuktanalyada) (Amuktanalyada) கருது ரவயாத வபரு ?

- (1) Shudrak (Shudrak) (Shudrak)
- (2) Krishnadera Ray (Krishnadera Ray) (Krishnadera Ray)
- (3) Harihara (Harihara) (Harihara)
- (4) Harshavardhana (Harshavardhana) (Harshavardhana)

Options :

- 212507119237 1

212807119238 1  
212807119239 3  
212807119240 4

Question Number : 216 Question Id : 21280729811 Question Type : MCQ Option Shuffling : No Is Question Mandatory : No Calculator : None  
Response Time : N.A Think Time : N.A Minimum Instruction Time : 0

Correct Marks : 5 Wrong Marks : 1

Question Key Details :

Key	Value
Comprehension	MCQ

Which of the following is incorrect about the 'Amara-Nayakas' system of the Vijayanagara Empire ?

- (1) Amara-nayakas were responsible for collecting taxes from peasants.
- (2) Amara-nayakas were military commanders.
- (3) Amara-nayakas refer to a group of priests.
- (4) Amara-nayakas were expected to send an annual tribute to the king.

Options :

212807119241 1  
212807119242 2  
212807119243 3  
212807119244 4

Question Number : 216 Question Id : 21280729811 Question Type : MCQ Option Shuffling : No Is Question Mandatory : No Calculator : None  
Response Time : N.A Think Time : N.A Minimum Instruction Time : 0

Correct Marks : 5 Wrong Marks : 1

Question Key Details :

Key	Value
Comprehension	MCQ

निम्न में से कौन सा कथन विजयनगर साम्राज्य की 'अमर नायक' व्यवस्था के संदर्भ में उचित नहीं है?

- (1) अमर-नायक किसानों से कर संग्रह के लिये उत्तरदायी थे।
- (2) अमर-नायक सैनिक कमांडर थे।
- (3) अमर-नायक पुजारियों के समूह को प्रदर्शित करता है।
- (4) अमर-नायक का वर्ष में एक बार राजा को भेंट भेजना अपेक्षित था।

Options :

212807119241 1  
212807119242 2  
212807119243 3  
212807119244 4

Question Number : 216 Question Id : 21280729811 Question Type : MCQ Option Shuffling : No Is Question Mandatory : No Calculator : None  
Response Time : N.A Think Time : N.A Minimum Instruction Time : 0

Correct Marks : 5 Wrong Marks : 1

Question Key Details :

Key	Value
Comprehension	MCQ

विजयनगर साम्राज्य में 'अमर-नायक' की पद्धति का उद्देश्य क्या था ?

- (1) अमर-नायक किसानों से कर संग्रह करने के लिये उत्तरदायी थे।
- (2) अमर-नायक सैनिक कमांडर थे।
- (3) अमर-नायक पुजारियों के समूह को प्रदर्शित करता है।
- (4) अमर-नायक का वर्ष में एक बार राजा को भेंट भेजना अपेक्षित था।

Options :

212807119241 1  
212807119242 2  
212807119243 3  
212807119244 4

Question Number : 116 Question Id : 21280719811 Question Type : MCQ Option Shuffling : No Is Question Mandatory : No Calculator : None  
Response Time : N.A Think Time : N.A Minimum Instruction Time : 0

Correct Marks : 5 Wrong Marks : 1

Question Key Details :

Key	Value
Comprehension	MCQ

ವಿಜಯನಗರ ಸಾಂಪ್ರದಾಯಿಕ 'ಅಮರ-ನಾಯಕ' ಸಂಸ್ಥೆಗೆ ನೀಡಿದ ಕೆಲವು ವಿವರಗಳನ್ನು ಕೆಳಕಂಡಂತೆ ಪರಿಶೀಲಿಸಿ ?

- (1) ಅಮರ-ನಾಯಕರು ಕೃಷಕರ ಕೆಲಸಗಳಿಗೆ ಅನುಕೂಲವಾಗಿ ದಾನಗಳನ್ನು ನೀಡುತ್ತಿದ್ದರು.
- (2) ಅಮರ-ನಾಯಕರು ಅನೇಕ ಸೈನ್ಯಗಳನ್ನು ನಿಯಂತ್ರಿಸುತ್ತಿದ್ದರು.
- (3) ಅಮರ-ನಾಯಕರ ಕಾಲದಲ್ಲಿ ಒಂದು ಸೈನ್ಯವನ್ನು ಸಂಘಟಿಸುವುದು ಅಸಾಧ್ಯವಾಗಿತ್ತು.
- (4) ಅಮರ-ನಾಯಕರು ವಾರ್ಷಿಕವಾಗಿ ರಾಜ್ಯದ ಜನರಿಗೆ ದಾನಗಳನ್ನು ನೀಡುತ್ತಿದ್ದರು.

Options :

212807119241 1  
212807119242 2  
212807119243 3  
212807119244 4

Question Number : 116 Question Id : 21280729811 Question Type : MCQ Option Shuffling : No Is Question Mandatory : No Calculator : None  
Response Time : N.A Think Time : N.A Minimum Instruction Time : 0

Correct Marks : 5 Wrong Marks : 1

Question Key Details :

Key	Value
Comprehension	MCQ

ನೀಚೆ ಹೀಗೆ ವಿವರಿಸಲಾಗಿದೆ 'ಅಮರ-ನಾಯಕ' ಸಂಸ್ಥೆಯ ಸಂಬಂಧಿಸಿದ ವಿಷಯಗಳನ್ನು ಕೆಳಕಂಡಂತೆ ಪರಿಶೀಲಿಸಿ ?

- (1) ಅಮರ ನಾಯಕರು ಕೆಲವು ಸಮಸ್ಯೆಗಳನ್ನು ನಿವಾರಿಸಲು ಸಹಾಯ ಮಾಡುತ್ತಿದ್ದರು.
- (2) ಅಮರ ನಾಯಕರು ಅನೇಕ ಸೈನ್ಯಗಳನ್ನು ನಿಯಂತ್ರಿಸುತ್ತಿದ್ದರು.
- (3) ಅಮರ ನಾಯಕರು ಒಂದು ಸೈನ್ಯವನ್ನು ಸಂಘಟಿಸುವುದು ಅಸಾಧ್ಯವಾಗಿತ್ತು.
- (4) ಅಮರ ನಾಯಕರು ವಾರ್ಷಿಕವಾಗಿ ರಾಜ್ಯದ ಜನರಿಗೆ ದಾನಗಳನ್ನು ನೀಡುತ್ತಿದ್ದರು.

Options :

212807119241 1  
212807119242 2  
212807119243 3  
212807119244 4

Question Number : 116 Question Id : 21280719811 Question Type : MCQ Option Shuffling : No Is Question Mandatory : No Calculator : None  
Response Time : N.A Think Time : N.A Minimum Instruction Time : 0

Correct Marks : 5 Wrong Marks : 1

Question Key Details :

Key	Value
Comprehension	MCQ

ವಿಜಯನಗರ ಸಾಮ್ರಾಜ್ಯದ 'ಅಮರ-ನಾಯಕ' ಸಂಸ್ಥೆಗೆ ಸಂಬಂಧಿಸಿದಂತೆ ಕೆಳಕಂಡವುಗಳಲ್ಲಿ ಯಾವುದು ಸರಿಯಲ್ಲ ?

- (1) ಅಮರ ನಾಯಕರು ರೈತರಿಂದ ಸುಲಂಕೆಗಳನ್ನು ಸಂಗ್ರಹಿಸುವುದಕ್ಕೆ ಜವಾಬ್ದಾರರಾಗಿದ್ದರು.
- (2) ಅಮರ ನಾಯಕರು ಸೈನ್ಯಾಧಿಪತಿಗಳಾಗಿದ್ದರು.
- (3) ಅಮರ ನಾಯಕರನ್ನು ಒಂದು ಸೈನ್ಯವನ್ನು ಸಂಘಟಿಸುವುದು ಅಸಾಧ್ಯವಾಗಿತ್ತು.
- (4) ಅಮರ ನಾಯಕರು ರಾಜ್ಯದ ಜನರಿಗೆ ವಾರ್ಷಿಕವಾಗಿ ದಾನಗಳನ್ನು ನೀಡುತ್ತಿದ್ದರು.

Options :

- 212807119241 1
- 212807119242 2
- 212807119243 3
- 212807119244 4

Question Number : 214 Question Id : 21280729811 Question Type : MCQ Option Shuffling : No Is Question Mandatory : No Calculator : None Response Time : N.A Think Time : N.A Minimum Instruction Time : 0

Correct Marks : 5 Wrong Marks : 1

Question Key Details :

Key	Value
Comprehension	MCQ

विजयनगर साम्राज्यातील 'अमर-नायक' प्रपालीच्या संदर्भात अयोग्य विधान कोणते आहे ?

- (1) शेतकऱ्यांकडून कर गोळा करण्याची जबाबदारी अमर-नायकांकडे होती.
- (2) अमर-नायक लष्करी अधिकारी होते.
- (3) अमर-नायक धर्मगुरूंचा गट म्हणून ओळखले जातात.
- (4) अमर-नायकांनी राजाला वार्षिक खंडणी पाठविणे अपेक्षित असे.

Options :

- 212807119241 1
- 212807119242 2
- 212807119243 3
- 212807119244 4

Question Number : 216 Question Id : 21280729811 Question Type : MCQ Option Shuffling : No Is Question Mandatory : No Calculator : None Response Time : N.A Think Time : N.A Minimum Instruction Time : 0

Correct Marks : 5 Wrong Marks : 1

Question Key Details :

Key	Value
Comprehension	MCQ

വീജയ നഗര സാമ്രാജ്യത്തിലെ അമര നായക സംവിധാനത്തെ ബന്ധപ്പെടുത്തിയാൽ ശരിയല്ലാത്തത് ഘटത് ?

- (1) കർഷകരിൽ നിന്ന് നികുതി പിരിച്ചിരുന്നത് അമര നായകരായിരുന്നു.
- (2) അമരനായകർ പട്ടാള മേധാവികൾ ആയിരുന്നു.
- (3) അമര നായകരിൽ വൈദികരും ഉണ്ടായിരുന്നു.
- (4) അമര നായകർ രാജാവിന് വാർഷിക കപ്പം കൊടുക്കേണ്ടിയിരുന്നു.

Options :

- 212807119241 1
- 212807119242 2
- 212807119243 3
- 212807119244 4

Question Number : 216 Question Id : 21280729811 Question Type : MCQ Option Shuffling : No Is Question Mandatory : No Calculator : None Response Time : N.A Think Time : N.A Minimum Instruction Time : 0

Correct Marks : 5 Wrong Marks : 1

Question Key Details :

Key	Value
Comprehension	MCQ

ਜਿਹੜੀਕੁਝ ਸਖਲ ਫਕੀਰੀ ਬਿਦਮਬਦਲ ਬਾਸ਼ਾਫਯਕ 'ਅਮਰ ਨਾਇਕ' ਕਯਕਫ਼ ਫੋਬਡਲੇ ਖਹੀਕ ਨੂਠੇ ?

- (1) ਖਮਰ-ਨਾਇਕਯਾਠੇ ਕੁਬਯਯਾਨਕਠਾਕੁ ਖਕਠਠ ਖਕੁਝ ਕਲਿਕ ਠਾਕੀਕੁਠੇ ਖੁਠੇ ।
- (2) ਖਮਰ-ਕਾਠਕਯਾਠੇ ਬਾਠਕਿਕ ਸੂਠਯ ਖੁਠੇ ।
- (3) ਖਮਰ-ਨਾਇਕ ਖੁਠਕਯਾਨਕ ਠੇਕੀਕੁ ਕੁਕਾਕੁਠਾ ।
- (4) ਖਮਰ-ਨਾਇਕਕਠਾਕੁ ਖੁਠੀਕਠੇ ਕਾਕਾਕ ਠਾਕੀ ਠੇਕ ਖਕਾ ਕਕਾਕਾਕੁਠਾ ।

Options :

- 212807119241 1  
212807119242 2  
212807119243 3  
212807119244 4

Question Number : 216 Question Id : 21280719811 Question Type : MCQ Option Shuffling : No Is Question Mandatory : No Calculator : None  
Response Time : N.A Think Time : N.A Minimum Instruction Time : 0

Correct Marks : 5 Wrong Marks : 1

Question Key Details :

Key	Value
Comprehension	MCQ

ਵਿਜੇਨਗਰ ਸਾਮਰਾਜ ਦੇ 'ਅਮਰ-ਨਾਇਕ' ਪ੍ਰਣਾਲੀ ਦੇ ਪ੍ਰਸੰਗ ਵਿਚ ਨਿਮਨਲਿਖਤ ਵਿਚੋਂ ਕਿਯੜਾ ਗਲਤ ਹੈ?

- (1) ਅਮਰ-ਨਾਇਕ ਕਿਸਾਨਾਂ ਤੋਂ ਕਰ ਪ੍ਰਾਪਤੀ ਕਰਨ ਲਈ ਬਿੰਮੇਵਾਰ ਸਨ ।
- (2) ਅਮਰ-ਨਾਇਕ ਮਿਲਟਰੀ ਕਮਾਂਡਰ ਸਨ ।
- (3) ਅਮਰ-ਨਾਇਕ ਪੁਜਾਰੀਆਂ ਨੂੰ ਦਰਸਾਉਂਦਾ ਹੈ ।
- (4) ਅਮਰ-ਨਾਇਕ ਰਾਜੇ ਨੂੰ ਸਾਲਾਨਾ ਖਰਚਾਜਲੀ ਦਿੰਦੇ ਸਨ ।

Options :

- 212807119241 1  
212807119242 2  
212807119243 3  
212807119244 4

Question Number : 216 Question Id : 21280719811 Question Type : MCQ Option Shuffling : No Is Question Mandatory : No Calculator : None  
Response Time : N.A Think Time : N.A Minimum Instruction Time : 0

Correct Marks : 5 Wrong Marks : 1

Question Key Details :

Key	Value
Comprehension	MCQ

ਵਿਯਯਨਕਰਪੁ ਪੋਰਾਸੀਨ 'ਅਮਰ ਨਾਯਕਾਕ' ਮੁਠਠ ਕੁਠੀਕਠ ਈਕਠਕ ਕੁਠੁਠੁ ਠਵਠਾਠਠੁ ?

- (1) ਖਮੁਕਾਕਾਕੀਠਮੁ ਠੁਕੁਠੁਠੁ ਅਮਰ ਨਾਯਕਾਕਾਕ ਵਾਸੀ ਵਕੁਲੁ ਕੋਕਠਠਾਕਾਕ ।
- (2) ਅਮਰ ਨਾਯਕਾਕਾਕ ਈਠਪਕਾਕਾਕ ਠੁਕਾਠਠੁਕਠ ਠੁਕਾਠਠੀਕਾਕ ।
- (3) ਅਮਰ ਨਾਯਕਾਕਾਕ ਈਠਪਕਾਕਾਕ ਪਠਠਠਠਾਕਾਕੀਕ ਠੁਕੁ ਕੁਮੁਕੀਠਾਕ ।
- (4) ਅਮਰ ਨਾਯਕਾਕਾਕ ਮਠਠਠਕੁਕੁ ਵਕੁਠਾਠਠੀਕ ਕਪਪਮੁ ਕਾਠ ਵੇਠਠਠਮੁ ।

Options :

- 212807119241 1  
212807119242 2  
212807119243 3  
212807119244 4

Question Number : 216 Question Id : 21280719811 Question Type : MCQ Option Shuffling : No Is Question Mandatory : No Calculator : None  
Response Time : N.A Think Time : N.A Minimum Instruction Time : 0

Correct Marks : 5 Wrong Marks : 1

Question Key Details :

Key	Value
Comprehension	MCQ

విజయనగర సామ్రాజ్య వ్యవస్థ 'అమర-నాయకుల' గురించి సరికానిది ఏది ?

- (1) రైతు కూలీల నుండి పన్ను సేకరించడం అమర-నాయకుల ఖ్యాత
- (2) అమర-నాయకులు మిలిటరీ కమాండర్లు
- (3) అమర-నాయకులు అనగా మత గురువుల సమూహం
- (4) అమర-నాయకులు రాజుకి వార్షిక నివాళి పంపగలగాలి

Options :

- 212507119241 1  
212507119242 2  
212507119243 3  
212507119244 4

Question Number : 116 Question Id : 21250719811 Question Type : MCQ Option Shuffling : No Is Question Mandatory : No Calculator : None  
Response Time : N.A Think Time : N.A Minimum Instruction Time : 0

Correct Marks : 5 Wrong Marks : 1

Question Key Details :

Key	Value
Comprehension	MCQ

وچے نگر سلطنت کے "امارنیا کس" (Amara-Nayakas) نظام کے متعلق مندرجہ ذیل میں کون سا بیان غلط ہے۔

(1) امارنیا کس (Amara-Nayakas) کسانوں سے ٹیکس اکٹھا کرنے کا ذمہ ادا کرتا تھا۔

(2) امارنیا کس (Amara-Nayakas) فوج کے کمانڈر تھے

(3) امارنیا کس (Amara-Nayakas) پجاریوں کا ایک گروپ تھا۔

(4) امارنیا کس (Amara-Nayakas) راہ کو سالانہ خزانہ تصدیق پیش کرنے کی توقع رکھتے تھے

Options :

- 212507119241 1  
212507119242 2  
212507119243 3  
212507119244 4

Question Number : 117 Question Id : 21250719812 Question Type : MCQ Option Shuffling : No Is Question Mandatory : No Calculator : None  
Response Time : N.A Think Time : N.A Minimum Instruction Time : 0

Correct Marks : 5 Wrong Marks : 1

Question Key Details :

Key	Value
Comprehension	MCQ

He was a famous surveyor and cartographer. In 1815, he was appointed as the first Surveyor General of India. Identify :

- (1) Alexander Cunningham
- (2) Francis Buchanan Hamilton
- (3) James Prinsep
- (4) Colin Mackenzie

Options :

- 212507119245 1  
212507119246 2  
212507119247 3  
212507119248 4

Question Number : 117 Question Id : 21280719245 Question Type : MCQ Option Shuffling : No Is Question Mandatory : No Calculator : None  
Response Time : N.A Think Time : N.A Minimum Instruction Time : 0

Correct Marks : 5 Wrong Marks : 1

Question Key Details :

Key	Value
Comprehension	MCQ

यह एक सर्वेक्षक और मानचित्र निर्माता थे। 1815 में इन्हें भारत का प्रथम सर्वेयर जनरल नियुक्त किया गया। पहचानिए :

- (1) अर्लकैंडर कनिंघम
- (2) फ्रांसिस ब्रुकानन हेमिल्टन
- (3) जेम्स प्रिंसेप
- (4) कोलिन मैकेज़ी

Options :

21280719245 1

21280719246 2

21280719247 3

21280719248 4

Question Number : 117 Question Id : 21280719246 Question Type : MCQ Option Shuffling : No Is Question Mandatory : No Calculator : None  
Response Time : N.A Think Time : N.A Minimum Instruction Time : 0

Correct Marks : 5 Wrong Marks : 1

Question Key Details :

Key	Value
Comprehension	MCQ

তেওঁ আছিল এজন বিখ্যাত জৰীপকাৰী আৰু মানচিত্ৰ নিৰ্মাতা। 1815 চনত তেওঁক ভাৰতৰ প্ৰথম জৰীপকাৰী জেনেৰেল হিচাপে নিযুক্তি দিয়া হয়।

- (1) আলেকজেন্ডাৰ কনিংহাম
- (2) ফ্ৰাঞ্চিস ব্ৰুকানন হেমিল্টন
- (3) জেমচ প্ৰিন্সেপ
- (4) ক'লিন মেকেক্জী

Options :

21280719245 1

21280719246 2

21280719247 3

21280719248 4

Question Number : 117 Question Id : 21280719247 Question Type : MCQ Option Shuffling : No Is Question Mandatory : No Calculator : None  
Response Time : N.A Think Time : N.A Minimum Instruction Time : 0

Correct Marks : 5 Wrong Marks : 1

Question Key Details :

Key	Value
Comprehension	MCQ

তিনি একজন বিখ্যাত জমি জরিপকাৰী ও মানচিত্ৰ বিশাৰদ ছিলেন। তিনি 1815 তে ভাৰতৰ প্ৰথম জমি জরিপকাৰ জেনাৰেল হিচাবে নিযুক্ত হন।

- (1) আলেকজান্ডাৰ কনিংহাম
- (2) ফ্ৰাঞ্চিস ব্ৰুকানন হ্যামিল্টন
- (3) জেমস প্ৰিন্সেপ
- (4) ক'লিন ম্যাকেক্জী

Options :

- 212807119245 1  
212807119246 2  
212807119247 3  
212807119248 4

Question Number : 217 Question Id : 21280729812 Question Type : MCQ Option Shuffling : No Is Question Mandatory : No Calculator : None  
Response Time : N.A Think Time : N.A Minimum Instruction Time : 0

Correct Marks : 5 Wrong Marks : 1

Question Key Details :

Key	Value
Comprehension	MCQ

ತೆಂಚೊ ಪ್ರಸಿಡ್ಡ್ ಸರ್ವೆಚರ್ ಆನಿ ಕಾಡೆಂಚ್ಚಾರ್ (ನಕ್ಷಾ ದೋನ್ಚಾರ್) ಲ್ಹಾ. 1815 ಚಾ ತೆಂಚೊಂನಿ ಭಾರತಚಾ ಪ್ರಥಮ ಸರ್ವೆಚರ್ ಜನರಲ ತರೀಕಿ ನಿಪುಂತಿ ಬರ್ಲೆ ಲ್ಹಾ :

- (1) ಆಲೆಕ್ಸಾಂಡರ್ ಕನ್ಸಿಲಿಯಮ್  
(2) ಫ್ರೆಂಚಿಸ್ ಜುಬೋನ ಲೆಬೊರಡನ್  
(3) ಜೇಮ್ಸ್ ಪ್ರಿನ್ಸೆಪ್  
(4) ಕೊಲೆಗ್ನಿ ಬೆಕೆಂಚಿ

Options :

- 212807119245 1  
212807119246 2  
212807119247 3  
212807119248 4

Question Number : 217 Question Id : 21280729812 Question Type : MCQ Option Shuffling : No Is Question Mandatory : No Calculator : None  
Response Time : N.A Think Time : N.A Minimum Instruction Time : 0

Correct Marks : 5 Wrong Marks : 1

Question Key Details :

Key	Value
Comprehension	MCQ

ಆವನಿ ಒಬ್ಬ ಪ್ರಸಿದ್ಧ ಸಮೀಕ್ಷೆಗಾರ ಮತ್ತು ನಕಾಶೆಗಾರ 1815ಚಿಲ್ಲಿ ಆವನಿನ್ಚಿ ಮೊದಲ ಭಾರತವ ಸರ್ವೆಚರ್ ಜನರಲ್ ಎಂಚಿ ನೇಮಿಸಲಾಯಿಚಿ. ಗುರುತಿಸಿ :

- (1) ಆಲೆಕ್ಸಾಂಡರ್ ಕನ್ಸಿಲಿಯಮ್  
(2) ಫ್ರೆಂಚಿಸ್ ಜುಬೋನ ಲೆಬೊರಡನ್  
(3) ಜೇಮ್ಸ್ ಪ್ರಿನ್ಸೆಪ್  
(4) ಕೊಲೆಗ್ನಿ ಬೆಕೆಂಚಿ

Options :

- 212807119245 1  
212807119246 2  
212807119247 3  
212807119248 4

Question Number : 217 Question Id : 21280729812 Question Type : MCQ Option Shuffling : No Is Question Mandatory : No Calculator : None  
Response Time : N.A Think Time : N.A Minimum Instruction Time : 0

Correct Marks : 5 Wrong Marks : 1

Question Key Details :

Key	Value
Comprehension	MCQ



तो एक प्रसिद्ध सर्वेक्षक आणि नकाशाकार होता. 1815 मध्ये त्याची भारताचा पहिला 'महासर्वेक्षक' म्हणून नेमणूक झाली. तो खालील मधून ओळखा :

- (1) अलेक्झांडर कनिंगहॅम
- (2) फ्रान्सिस बुखानन हॅमिल्टन
- (3) जेम्स ग्रिन्सेप
- (4) कॉलीन मॅकिन्झी

Options :  
 212807119245 1  
 212807119246 2  
 212807119247 3  
 212807119248 4

Question Number : 117 Question Id : 21280729612 Question Type : MCQ Option Shuffling : No Is Question Mandatory : No Calculator : None  
 Response Time : N.A Think Time : N.A Minimum Instruction Time : 0  
 Correct Marks : 5 Wrong Marks : 1

Question Key Details :

Key	Value
Comprehension	MCQ

1815 ൽ നിയമിതനായ ഇന്ത്യയുടെ പ്രശസ്തനായ, സർവ്വേയറും കാർട്ടോഗ്രാഫറുമായ സർവ്വേയർ ജനറൽ ഓഫ് ഇന്ത്യ :-

- (1) അലക്സാണ്ടർ കണ്ണിംഗ്‌ഹാം
- (2) ഫ്രാൻസിസ് ബുക്നാനൻ ഹാമിൽട്ടൺ
- (3) ജെയിംസ് ഗ്രിൻസെപ്പ്
- (4) കോളിൻ മക്കിൻസി

Options :  
 212807119245 1  
 212807119246 2  
 212807119247 3  
 212807119248 4

Question Number : 117 Question Id : 21280729812 Question Type : MCQ Option Shuffling : No Is Question Mandatory : No Calculator : None  
 Response Time : N.A Think Time : N.A Minimum Instruction Time : 0  
 Correct Marks : 5 Wrong Marks : 1

Question Key Details :

Key	Value
Comprehension	MCQ

যে লেখা পুঁথিৰ চৰ্মাংগেৰেৰাৰা '৩০' পানতীৰু অংককাৰা । 1815 পৰ্ব্বিহালে যে লালকৰ পুথিৰ মূৰাণ চৰ্মাংগেৰেৰাৰা  
 ঝানে নিঁদুৰি পাৰতুলে ।

- (1) আলেকজাণ্ডাৰ কনিংহাম
- (2) ফ্রান্সিস বুখানন হ্যামিল্টন
- (3) জেম্‌স গ্ৰিনসেপ
- (4) কোলিন ম্যাকিন্‌সি

Options :  
 212807119245 1  
 212807119246 2  
 212807119247 3  
 212807119248 4

Question Number : 117 Question Id : 21280719812 Question Type : MCQ Option Shuffling : No Is Question Mandatory : No Calculator : None  
Response Time : N.A Think Time : N.A Minimum Instruction Time : 0

Correct Marks : 5 Wrong Marks : 1

Question Key Details :

Key	Value
Comprehension	MCQ

ਇਹ ਇਕ ਪ੍ਰਸਿੱਧ ਸਰਵੇਖਣ ਅਧਿਕਾਰੀ ਅਤੇ ਕਾਰਟੋਗ੍ਰਾਫਰ ਸੀ। 1815 ਵਿਚ ਉਹ ਭਾਰਤ ਦਾ ਪਹਿਲਾ ਸਰਵੇ-ਜਨਰਲ ਬਣਿਆ।

- (1) ਅਲੈਗਜ਼ੈਂਡਰ ਕਨਿੰਘਮ।
- (2) ਫਰੈਂਸਿਸ ਬੈਂਡਨਨ ਹੈਮਿਲਟਨ
- (3) ਜੇਮਜ਼ ਪ੍ਰਿੰਸਿਪ
- (4) ਕੋਲਿਨ ਮਕੈਨਚੀ

Options :

212807119245 1

212807119246 2

212807119247 3

212807119248 4

Question Number : 117 Question Id : 21280719812 Question Type : MCQ Option Shuffling : No Is Question Mandatory : No Calculator : None  
Response Time : N.A Think Time : N.A Minimum Instruction Time : 0

Correct Marks : 5 Wrong Marks : 1

Question Key Details :

Key	Value
Comprehension	MCQ

ਅਵਾਰ ਓਰੂ ਪਿਰਪਲ ਸਰਵੇਯਰ (ਜ਼ੀਲ ਅਯਵਿਠੁਪਵਰ) ਮਠ੍ਰਠ੍ਰਮ ਠੇਠੀਯ ਵਰਾਰਪਦਕ ਕਠੈਲਠ੍ਰਰ ਅਵਾਰ, 1815 -ਯ ਠ੍ਰਿਠ੍ਰਠੀਯਾਵਿਠ੍ਰ ਮੁਠਲਾਲਠ੍ਰ ਠਲੈਲਠੈਮ ਅਠਵਿਯਲਾਠਰਾਕ ਠ੍ਰਿਯਮਿਕਕਪਪਦਾਰ, ਅਵਾਰ ਯਾਰ ?

- (1) ਅਲੈਕਸਾਠਡਰ ਕਨਨਿਠਠ੍ਰਠ੍ਰਮ
- (2) ਫ੍ਰੈਂਸਿਸ ਬੈਂਡਨਨ ਹੈਮਿਲਟਨ
- (3) ਜੇਠਮਸ ਪ੍ਰਿਠਿਠਸੇਪ
- (4) ਕੋਲੀਠ ਮੇਕਕਨਚੀ

Options :

212807119245 1

212807119246 2

212807119247 3

212807119248 4

Question Number : 117 Question Id : 21280719812 Question Type : MCQ Option Shuffling : No Is Question Mandatory : No Calculator : None  
Response Time : N.A Think Time : N.A Minimum Instruction Time : 0

Correct Marks : 5 Wrong Marks : 1

Question Key Details :

Key	Value
Comprehension	MCQ

అతను ప్రఖ్యాత భూములు కొలుచువాడు మరియు పటములను గీయువాడు. 1815 లో, అతను భారతదేశ మొదటి సర్వేయర్ జనరల్ గా నియమించబడ్డాడు, అతనిని గుర్తించండి :

- (1) అలెగ్జాండర్ కున్నింగమ్
- (2) ఫ్రాన్సిస్ బుఖానన్ హమిల్టన్
- (3) జేమ్స్ ప్రిన్సెప్
- (4) కొలిన్ మ్యాకెన్జీ

Options :

- 212807119245 1  
212807119246 2  
212807119247 3  
212807119248 4

Question Number : 117 Question Id : 21280729812 Question Type : MCQ Option Shuffling : No Is Question Mandatory : No Calculator : None  
Response Time : N.A Think Time : N.A Minimum Instruction Time : 0

Correct Marks : 5 Wrong Marks : 1

Question Key Details :

Key	Value
Comprehension	MCQ

وہ ایک مشہور ناظر اور نقاش گارتھا۔ 1815 میں وہ ہندوستان کے سب سے پہلے ناظر اعلیٰ آفیسر بن گئے۔

- (1) الیگزینڈر کونینگھم (Alexander Cunningham)
- (2) فرانسس بچانن ہاملٹن (Francis Buchanan Hamilton)
- (3) جیمس پرنسپ (James Prinsep)
- (4) کولن مکینزی (Colin Mackenzie)

Options :

- 212807119245 1  
212807119246 2  
212807119247 3  
212807119248 4

Question Number : 218 Question Id : 21280729813 Question Type : MCQ Option Shuffling : No Is Question Mandatory : No Calculator : None  
Response Time : N.A Think Time : N.A Minimum Instruction Time : 0

Correct Marks : 5 Wrong Marks : 1

Question Key Details :

Key	Value
Comprehension	MCQ

Which of the following Temples are located in Hampi ?

- (A) Rajarajeshwara
- (B) Hazara Rama
- (C) Vitthala
- (D) Lakshmana
- (E) Brihadishwara

Choose the correct answer from the options given below :

- (1) (A), (E) only
- (2) (C), (D) only
- (3) (B), (C) only
- (4) (B), (D) only

Options :

212807119249 1

212807119250 2

212807119251 3

212807119252 4

Question Number : 218 Question Id : 21280719813 Question Type : MCQ Option Shuffling : No Is Question Mandatory : No Calculator : None  
Response Time : N.A Think Time : N.A Minimum Instruction Time : 0

Correct Marks : 5 Wrong Marks : 1

Question Key Details :

Key	Value
Comprehension	MCQ

निम्न में से कौन-से मंदिर हम्पी में स्थित हैं ?

- (A) राजराजेश्वर
- (B) हज़ारा राम
- (C) विट्ठल
- (D) लक्ष्मण
- (E) बृहदेश्वर

नीचे दिए गए विकल्पों में से सही उत्तर का चयन कीजिए :

- (1) केवल (A), (E)
- (2) केवल (C), (D)
- (3) केवल (B), (C)
- (4) केवल (B), (D)

Options :

212807119249 1

212807119250 2

212807119251 3

212807119252 4

Question Number : 218 Question Id : 21280719813 Question Type : MCQ Option Shuffling : No Is Question Mandatory : No Calculator : None  
Response Time : N.A Think Time : N.A Minimum Instruction Time : 0

Correct Marks : 5 Wrong Marks : 1

Question Key Details :

Key	Value
Comprehension	MCQ

তলৰ কোনাৰোৰ মন্দিৰ হাম্পিত স্থাপিত ?

- (A) ৰাজ্যাজেশ্বৰ
- (B) হাজাৰ বাম
- (C) তিখালা
- (D) লক্ষ্মণ
- (E) বৃহদিশ্বৰ

তলত দিয়া বিকল্পসমূহৰপৰা শুদ্ধ উত্তৰটো বাছি উলিওৱা :

- (1) কেবল (A), (E)
- (2) কেবল (C), (D)
- (3) কেবল (B), (C)
- (4) কেবল (B), (D)

Options :

- 212807119249 1
- 212807119250 2
- 212807119251 3
- 212807119252 4

Question Number : 218 Question Id : 21280719813 Question Type : MCQ Option Shuffling : No Is Question Mandatory : No Calculator : None  
Response Time : N.A Think Time : N.A Minimum Instruction Time : 0

Correct Marks : 5 Wrong Marks : 1

Question Key Details :

Key	Value
Comprehension	MCQ

নিচৰ কোন মন্দিৰগুলি হাম্পিতে অৱস্থিত ছিল ?

- (A) ৰাজ্যাজেশ্বৰ
- (B) হাজাৰা ৰাম
- (C) তিখালা
- (D) লক্ষ্মণ
- (E) বৃহদিশ্বৰ

নিচৰ বিকল্পগুলি থেকে সঠিক উত্তৰটি বেৰ কৰা :

- (1) কেবলমাত্ৰ (A), (E)
- (2) কেবলমাত্ৰ (C), (D)
- (3) কেবলমাত্ৰ (B), (C)
- (4) কেবলমাত্ৰ (B), (D)

Options :

- 212807119249 1
- 212807119250 2
- 212807119251 3
- 212807119252 4

Question Number : 218 Question Id : 21280719813 Question Type : MCQ Option Shuffling : No Is Question Mandatory : No Calculator : None  
Response Time : N.A Think Time : N.A Minimum Instruction Time : 0

Correct Marks : 5 Wrong Marks : 1

Question Key Details :

Key	Value
Comprehension	MCQ

ನೀಚಿನವುಗಳಲ್ಲಿ ಯಾವವರನ್ನು ಹೆಚ್ಚಿನವರು ತಿಳಿಯುವರು ?

- (A) ರಾಜರಾಜೇಂದ್ರ
- (B) ಹರ್ಷರಾಜ
- (C) ವಿಕ್ರಮ
- (D) ಚಕ್ರವರ್ತಿ
- (E) ಪ್ರಸಿದ್ಧರಾಜ

ನೀಚಿನವುಗಳಲ್ಲಿ ಯಾವವರನ್ನು ಹೆಚ್ಚಿನವರು ತಿಳಿಯುವರು ?

- (1) (A), (E)
- (2) (C), (D)
- (3) (B), (C)
- (4) (B), (D)

Options :

112807119249 1

112807119250 2

112807119251 3

112807119252 4

Question Number : 118 Question Id : 11280719813 Question Type : MCQ Option Shuffling : No Is Question Mandatory : No Calculator : None  
Response Time : N/A Think Time : N/A Minimum Instruction Time : 0

Correct Marks : 5 Wrong Marks : 1

Question Key Details :

Key	Value
Comprehension	MCQ

ಈ ಕೆಳಗಿನ ಯಾವ ದೇವಸ್ಥಾನಗಳು ಹಂಪಿಯಲ್ಲಿವೆ ?

- (A) ರಾಜರಾಜೇಂದ್ರ
- (B) ಹರ್ಷರಾಜ
- (C) ವಿಕ್ರಮ
- (D) ಚಕ್ರವರ್ತಿ
- (E) ಪ್ರಸಿದ್ಧರಾಜ

ಕೆಳಗೆ ನೀಡಿರುವ ಆಯ್ಕೆಗಳಿಂದ ಸರಿಯಾದ ಉತ್ತರವನ್ನು ಆರಿಸಿ.

- (1) (A), (E) ಮಾತ್ರ
- (2) (C), (D) ಮಾತ್ರ
- (3) (B), (C) ಮಾತ್ರ
- (4) (B), (D) ಮಾತ್ರ

Options :

112807119249 1

112807119250 2

112807119251 3

112807119252 4

Question Number : 118 Question Id : 21280719249 Question Type : MCQ Option Shuffling : No Is Question Mandatory : No Calculator : None Response Time : N.A Think Time : N.A Minimum Instruction Time : 0

Correct Marks : 5 Wrong Marks : 1

Question Key Details :

Key	Value
Comprehension	MCQ

खासतः ललषकः कःणतः मःदरे हःमःपः येधे स्थःत आःहेत ?

- (A) रःजरःजेश्वर
- (B) हःजरः रःम
- (C) वःदूठल
- (D) लःक्षमःण
- (E) बृहदःीश्वर

खःसःतः दःलःलेल्यः पर्यःयांमधुन यःग्य पर्यःय नःवडःः :

- (1) फःकःत (A), (E)
- (2) फःकःत (C), (D)
- (3) फःकःत (B), (C)
- (4) फःकःत (B), (D)

Options :

212807119249\_1

212807119250\_2

212807119251\_3

212807119252\_4

Question Number : 118 Question Id : 21280719813 Question Type : MCQ Option Shuffling : No Is Question Mandatory : No Calculator : None Response Time : N.A Think Time : N.A Minimum Instruction Time : 0

Correct Marks : 5 Wrong Marks : 1

Question Key Details :

Key	Value
Comprehension	MCQ

താഴെ തന്നിരിക്കുന്നതിൽ ഏതൊക്കെ കേന്ദ്രങ്ങളാണ് ഹിന്ദിയിൽ സ്ഥിതി ചെയ്യുന്നത് ?

- (A) രാജരാജേശ്വര
- (B) ഹസാൻ രാഠ
- (C) വിതാല
- (D) ലക്ഷ്മണ
- (E) ബൃഹദീശ്വര

താഴെ തന്നിരിക്കുന്നവയിൽ നിന്നും ശരിയായ ഉത്തരം തിരഞ്ഞെടുക്കുക.

- (1) (A), (E) മാത്രം
- (2) (C), (D) മാത്രം
- (3) (B), (C) മാത്രം
- (4) (B), (D) മാത്രം

Options :

212807119249\_1

212807119250\_2

212507119251-3  
212507119252-4

Question Number : 115 Question Id : 21250719513 Question Type : MCQ Option Shuffling : No Is Question Mandatory : No Calculator : None  
Response Time : N.A Think Time : N.A Minimum Instruction Time : 0  
Correct Marks : 5 Wrong Marks : 1

Question Key Details :

Key	Value
Comprehension	MCQ

ନିମ୍ନଲିଖିତ ମଧ୍ୟରୁ କେଉଁ ମପିରତି ହମିଠାରେ ଅବସ୍ଥିତ ?

- (A) ରାଜରାଜେଶ୍ୱର
- (B) ହତାଶା ରାମା
- (C) ଭିଆରା
- (D) ଭଣ୍ଡାଣ
- (E) ରୁଦ୍ରଦେଶ୍ୱର

ନିମ୍ନରେ ଦିଆଯାଇଥିବା ବିକଳ ମଧ୍ୟରୁ ସଠିକ୍ ଉତ୍ତରକୁ ଚିହ୍ନଟ କରନ୍ତୁ ।

- (1) କେବଳ (A), (E)
- (2) କେବଳ (C), (D)
- (3) କେବଳ (B), (C)
- (4) କେବଳ (B), (D)

Options :

212507119249-1  
212507119250-2  
212507119251-3  
212507119252-4

Question Number : 118 Question Id : 21250719813 Question Type : MCQ Option Shuffling : No Is Question Mandatory : No Calculator : None  
Response Time : N.A Think Time : N.A Minimum Instruction Time : 0  
Correct Marks : 5 Wrong Marks : 1

Question Key Details :

Key	Value
Comprehension	MCQ



ਨਿਮਨਲਿਖਤ ਵਿਚੋਂ ਕਿਹੜਾ ਮੰਦਰ ਹਾਂਪੀ ਵਿਚ ਹੈ ?

- (A) ਰਾਜਾਰਾਜੇਸ਼ਵਰ
- (B) ਹਜ਼ਾਰ ਰਾਮਾ
- (C) ਵਿਠਲ
- (D) ਲਕਸ਼ਮਣ
- (E) ਬ੍ਰਿਹਾਦੀਸ਼ਵਰ

ਹੇਠ ਲਿਖਿਆਂ ਵਿਕਲਪਾਂ ਵਿੱਚ ਸਹੀ ਉੱਤਰ ਦੀ ਚੋਣ ਕਰੋ :

- (1) ਸਿਰਫ਼ (A), (E)
- (2) ਸਿਰਫ਼ (C), (D)
- (3) ਸਿਰਫ਼ (B), (C)
- (4) ਸਿਰਫ਼ (B), (D)

Options :

- 212807119249-1
- 212807119250-2
- 212807119251-3
- 212807119252-4

Question Number : 115 Question Id : 21280719813 Question Type : MCQ Option Shuffling : No Is Question Mandatory : No Calculator : None Response Time : N.A Think Time : N.A Minimum Instruction Time : 0

Correct Marks : 5 Wrong Marks : 1

Question Key Details :

Key	Value
Comprehension	MCQ

ਠੁਮਪਿਯਿਲ ਇਰੁਕੁਕੁਮ ਆਲਯਙਕਲ ਯਾਨਵ ?

- (A) ਰਾਜਰਾਜੇਸ਼ਵਰ ਆਲਯਙਮ
- (B) ਹਜ਼ਾਰਾ ਰਾਮ ਆਲਯਙਮ
- (C) ਵਿਠਲ ਆਲਯਙਮ
- (D) ਲਕਸ਼ਮਣ ਆਲਯਙਮ
- (E) ਬ੍ਰਿਹਾਦੀਸ਼ਵਰ ਆਲਯਙਮ

ਕੀਰਕਾਣੁਮ ਵਿਰੁਪਪਠ ਠੇਰਿਯੁਕਲਿਲ ਇਰੁਠੁ ਚਰਿਯਾਨ ਵਿਠਾਯਠ ਠੇਰੁਠਿਠੁਕੁਕੁਕੁਯੁਠ :

- (1) (A), (E) ਮਠੁਠੁਮ
- (2) (C), (D) ਮਠੁਠੁਮ
- (3) (B), (C) ਮਠੁਠੁਮ
- (4) (B), (D) ਮਠੁਠੁਮ

Options :

- 212807119249-1
- 212807119250-2
- 212807119251-3
- 212807119252-4

Question Number : 118 Question Id : 21280719813 Question Type : MCQ Option Shuffling : No Is Question Mandatory : No Calculator : None Response Time : N.A Think Time : N.A Minimum Instruction Time : 0

Correct Marks : 5 Wrong Marks : 1

## Question Key Details :

Key	Value
Comprehension	MCQ

కింది వాటిలో హంపిలో ఏ దేవాలయాలు ఉన్నాయి ?

- (A) రాజరాజేశ్వర
- (B) హజార రామ
- (C) విట్టల
- (D) లక్ష్మణ
- (E) బ్రహదీశ్వర

కింద ఇవ్వబడిన వికల్పాలలో సరైన సమాధానం ఎన్నుకోండి :

- (1) (A), (E) మాత్రమే
- (2) (C), (D) మాత్రమే
- (3) (B), (C) మాత్రమే
- (4) (B), (D) మాత్రమే

Options :

212807119249 : 1

212807119250 : 2

212807119251 : 3

212807119252 : 4

Question Number : 218 Question Id : 21280719613 Question Type : MCQ Option-Shuffling : No Is Question Mandatory : No Calculator : None  
Response Time : N.A Think Time : N.A Minimum Instruction Time : 0

Correct Marks : 5 Wrong Marks : 1

Question Key Details :

Key	Value
Comprehension	MCQ

مندوبذیل میں سے کون سے مندرجہ ذیل (Hampi) پر واقع ہیں۔

- (Rajarajeshwara) راجراجیشور (A)
- (Hazara Rama) ہزار رام (B)
- (Vithala) ویتھالا (C)
- (Lakshmana) لکشمن (D)
- (Brihadishvara) برہادیشوارا (E)

صرف A اور E (1)

صرف C اور D (2)

صرف B اور C (3)

صرف B اور D (4)

Options :

- 212807119249 1  
212807119250 2  
212807119251 3  
212807119252 4

Question Number : 219 Question Id : 21280729814 Question Type : MCQ Option Shuffling : No Is Question Mandatory : No Calculator : None  
Response Time : N.A Think Time : N.A Minimum Instruction Time : 0

Correct Marks : 5 Wrong Marks : 1

Question Key Details :

Key	Value
Comprehension	MCQ

Match List - I with List - II :-

**List - I**

- (A) Rama Raya  
(B) Harihara and Bukka  
(C) Narasimha  
(D) Krishnadeva Raya

**List - II**

- (I) Aravidu dynasty  
(II) Saluva dynasty  
(III) Tuluva dynasty  
(IV) Sangam dynasty

Choose the correct answer from the options given below :

- (1) (A)-(III), (B)-(IV), (C)-(II), (D)-(I)  
(2) (A)-(I), (B)-(IV), (C)-(II), (D)-(III)  
(3) (A)-(II), (B)-(III), (C)-(IV), (D)-(I)  
(4) (A)-(I), (B)-(II), (C)-(III), (D)-(IV)

Options :

- 212807119253 1  
212807119254 2  
212807119255 3  
212807119256 4

Question Number : 219 Question Id : 21280729814 Question Type : MCQ Option Shuffling : No Is Question Mandatory : No Calculator : None  
Response Time : N.A Think Time : N.A Minimum Instruction Time : 0

Correct Marks : 5 Wrong Marks : 1

Question Key Details :

Key	Value
Comprehension	MCQ

सूची-I से सूची-II का मिलान कीजिए:

**सूची-I**

- (A) राम राय  
(B) हरिहर एवं बुक्का  
(C) नरसिम्हा  
(D) कृष्णदेव राय

**सूची-II**

- (I) अराविट्टु राजवंश  
(II) सालुव राजवंश  
(III) तुलुव राजवंश  
(IV) संगम राजवंश

नीचे दिए गए विकल्पों में से सही उत्तर का चयन कीजिए :

- (1) (A)-(III), (B)-(IV), (C)-(II), (D)-(I)  
(2) (A)-(I), (B)-(IV), (C)-(II), (D)-(III)  
(3) (A)-(II), (B)-(III), (C)-(IV), (D)-(I)  
(4) (A)-(I), (B)-(II), (C)-(III), (D)-(IV)

Options :

- 212807119253 1

212507119254 1  
212507119255 3  
212507119256 4

Question Number : 119 Question Id : 21260729814 Question Type : MCQ Option Shuffling : No Is Question Mandatory : No Calculator : None  
Response Time : N.A Think Time : N.A Minimum Instruction Time : 0  
Correct Marks : 5 Wrong Marks : 1  
Question Key Details :

Key	Value
Comprehension	MCQ

তালিকা - I ৰ সৈতে তালিকা - II মিলোৱা :

তালিকা - I	তালিকা - II
(A) বাম ৰায়	(I) অৰভিন্দু বংশ
(B) হৰিহৰ আৰু বুক	(II) চলুভা বংশ
(C) নৰসিংহ	(III) তুলুভা বংশ
(D) কুন্দৰদেব ৰায়	(IV) সংগম বংশ

তলত দিয়া বিকল্পসমূহৰপৰা শুদ্ধ উত্তৰটো বাছি উলিওৱা :

- (1) (A)-(III), (B)-(IV), (C)-(II), (D)-(I)
- (2) (A)-(I), (B)-(IV), (C)-(II), (D)-(III)
- (3) (A)-(II), (B)-(III), (C)-(IV), (D)-(I)
- (4) (A)-(I), (B)-(II), (C)-(III), (D)-(IV)

Options :  
212507119253 1  
212507119254 2  
212507119255 3  
212507119256 4

Question Number : 119 Question Id : 21260729814 Question Type : MCQ Option Shuffling : No Is Question Mandatory : No Calculator : None  
Response Time : N.A Think Time : N.A Minimum Instruction Time : 0  
Correct Marks : 5 Wrong Marks : 1  
Question Key Details :

Key	Value
Comprehension	MCQ

তালিকা I এৰ সৈতে তালিকা II মেলাও :

তালিকা I	তালিকা II
(A) ৰাম ৰায়	(I) আৰাবিন্দু ৰাজবংশ
(B) হৰিহৰ ও বুক	(II) সলুভ ৰাজবংশ
(C) নৰসিংহ	(III) তুলুভ ৰাজবংশ
(D) কুন্দৰদেব ৰায়	(IV) সংগম ৰাজবংশ

নিচত বিকল্পসমূহৰপৰা শুদ্ধ উত্তৰটো চৰা :

- (1) (A)-(III), (B)-(IV), (C)-(II), (D)-(I)
- (2) (A)-(I), (B)-(IV), (C)-(II), (D)-(III)
- (3) (A)-(II), (B)-(III), (C)-(IV), (D)-(I)
- (4) (A)-(I), (B)-(II), (C)-(III), (D)-(IV)

Options :

212807119253-1  
212807119254-2  
212807119255-3  
212807119256-4

Question Number : 219 Question Id : 21280719814 Question Type : MCQ Option Shuffling : No Is Question Mandatory : No Calculator : None  
Response Time : N.A Think Time : N.A Minimum Instruction Time : 0

Correct Marks : 5 Wrong Marks : 1

Question Key Details :

Key	Value
Comprehension	MCQ

ಸುಖಿ-I ಸಾಥೆ ಸುಖಿ-II ನೆ ಜೊಡೆ.

ಸುಖಿ-I

ಸುಖಿ-II

- |                      |                 |
|----------------------|-----------------|
| (A) ರಾಮ ರಾಜ          | (I) ಅರವಿಹ್ನ ವಂಶ |
| (B) ಹರಿಹರ ಅನೇ ಲುಕ್ಟಾ | (II) ಸಾಲುವ ವಂಶ  |
| (C) ನರಸಿಂಹ           | (III) ತಾಲುವ ವಂಶ |
| (D) ಕ್ರೀಶನಹೇವ ರಾಜ    | (IV) ಸಂಭವ ವಂಶ   |

ನೀಚೆ ಆಪೆಲಾ ಫಿಕ್ಟಲ್ಪೊಂಚೆ ಸಾಖೊ ಫಿತ್ತರ ಸೊಥೊ :

- (1) (A)-(III), (B)-(IV), (C)-(II), (D)-(I)
- (2) (A)-(I), (B)-(IV), (C)-(II), (D)-(III)
- (3) (A)-(II), (B)-(III), (C)-(IV), (D)-(I)
- (4) (A)-(I), (B)-(II), (C)-(III), (D)-(IV)

Options :

212807119253-1  
212807119254-2  
212807119255-3  
212807119256-4

Question Number : 219 Question Id : 21280719814 Question Type : MCQ Option Shuffling : No Is Question Mandatory : No Calculator : None  
Response Time : N.A Think Time : N.A Minimum Instruction Time : 0

Correct Marks : 5 Wrong Marks : 1

Question Key Details :

Key	Value
Comprehension	MCQ

ಪಟ್ಟಿ - I ಮತ್ತು ಪಟ್ಟಿ - II ನ್ನು ಹೊಂದಿಸಿ.

ಪಟ್ಟಿ - I

ಪಟ್ಟಿ - II

- |                      |                      |
|----------------------|----------------------|
| (A) ರಾಮ ರಾಯ          | (I) ಅರವಿಂದ ಸಾಮರಾಜ್ಯ  |
| (B) ಹರಿಹರ ಮತ್ತು ಒಂಕೆ | (II) ಸಾಲುವ ಸಾಮರಾಜ್ಯ  |
| (C) ನರಸಿಂಹ           | (III) ತುಳುವ ಸಾಮರಾಜ್ಯ |
| (D) ಕೃಷ್ಣದೇವರಾಯ      | (IV) ಸಂಭವ ಸಾಮರಾಜ್ಯ   |

ಕೆಳಗಿನ ನೀಡಿರುವ ಆಯ್ಕೆಗಳಿಂದ ಸರಿಯಾದ ಉತ್ತರವನ್ನು ಆರಿಸಿ.

- (1) (A)-(III), (B)-(IV), (C)-(II), (D)-(I)
- (2) (A)-(I), (B)-(IV), (C)-(II), (D)-(III)
- (3) (A)-(II), (B)-(III), (C)-(IV), (D)-(I)
- (4) (A)-(I), (B)-(II), (C)-(III), (D)-(IV)

Options :

212807119253 1  
212807119254 2  
212807119255 3  
212807119256 4

Question Number : 218 Question Id : 21280719814 Question Type : MCQ Option Shuffling : No Is Question Mandatory : No Calculator : None  
Response Time : N.A Think Time : N.A Minimum Instruction Time : 0

Correct Marks : 5 Wrong Marks : 1

Question Key Details :

Key	Value
Comprehension	MCQ

സൂची - I വ സൂची - II മधीല യോഗ്യ ജോഡയാ जुळवा :-

सूची - I

सूची - II

- |                     |                   |
|---------------------|-------------------|
| (A) रामराय          | (I) अरविदु घराणे  |
| (B) हरिहर आणि बुक्क | (II) सलुव घराणे   |
| (C) नरसिंह          | (III) तुळुव घराणे |
| (D) कृष्णदेव राव    | (IV) संगम घराणे   |

खाली दिलेल्या पर्यायांमधून योग्य पर्याय निवडा :

- (1) (A)-(III), (B)-(IV), (C)-(II), (D)-(I)
- (2) (A)-(I), (B)-(IV), (C)-(II), (D)-(III)
- (3) (A)-(II), (B)-(III), (C)-(IV), (D)-(I)
- (4) (A)-(I), (B)-(II), (C)-(III), (D)-(IV)

Options :

212807119253 1  
212807119254 2  
212807119255 3  
212807119256 4

Question Number : 219 Question Id : 21280719814 Question Type : MCQ Option Shuffling : No Is Question Mandatory : No Calculator : None  
Response Time : N.A Think Time : N.A Minimum Instruction Time : 0

Correct Marks : 5 Wrong Marks : 1

Question Key Details :

Key	Value
Comprehension	MCQ

ലിസ്റ്റ് - I ലിസ്റ്റ് - II മായി ചേരുന്നപടി ചേരിക്കുക.

ലിസ്റ്റ് - I

ലിസ്റ്റ് - II

- |                       |                   |
|-----------------------|-------------------|
| (A) രാമരായ            | (I) അരവിന്ദു വംശം |
| (B) ഹരിഹരനും ബുക്കയും | (II) സാലുവ വംശം   |
| (C) നരസിംഹ            | (III) തുളുവ വംശം  |
| (D) കൃഷ്ണ ദേവരായ      | (IV) സംഗമവംശം     |

താഴെ തന്നിരിക്കുന്നവയിൽ നിന്നും ശരിയുത്തരം തിരഞ്ഞെടുക്കുക.

- (1) (A)-(III), (B)-(IV), (C)-(II), (D)-(I)
- (2) (A)-(I), (B)-(IV), (C)-(II), (D)-(III)
- (3) (A)-(II), (B)-(III), (C)-(IV), (D)-(I)
- (4) (A)-(I), (B)-(II), (C)-(III), (D)-(IV)

Options :

- 212807119253 1
- 212807119254 2
- 212807119255 3
- 212807119256 4

Question Number : 219 Question Id : 21280729814 Question Type : MCQ Option Shuffling : No Is Question Mandatory : No Calculator : None  
Response Time : N.A Think Time : N.A Minimum Instruction Time : 0

Correct Marks : 5 Wrong Marks : 1

Question Key Details :

Key	Value
Comprehension	MCQ

ଚାରିଜା-I ସହିତ ଚାରିଜା-II କୁ ମିଳାନ୍ତୁ ।

ଚାରିଜା-I

ଚାରିଜା-II

- |                      |                     |
|----------------------|---------------------|
| (A) ଭୀମ ଚନ୍ଦ୍ର       | (I) ଆଗାଦିତୁରାଜବଂଶ   |
| (B) ହରିହର ଏବଂ କୁନ୍ତୀ | (II) ସରୁରା ରାଜବଂଶ   |
| (C) ନରସିଂହ           | (III) କୁରୁରା ରାଜବଂଶ |
| (D) ତ୍ରିଷ୍ଟମ୍ବକ ଯେ   | (IV) ସଙ୍ଗମ ରାଜବଂଶ   |

ନିମ୍ନରେ ଦିଆଯାଇଥିବା ବିଭିନ୍ନ ମଧ୍ୟରୁ ସଠିକ୍ ଉତ୍ତରକୁ ଚିହ୍ନଟ କରନ୍ତୁ ।

- (1) (A)-(III), (B)-(IV), (C)-(II), (D)-(I)
- (2) (A)-(I), (B)-(IV), (C)-(II), (D)-(III)
- (3) (A)-(II), (B)-(III), (C)-(IV), (D)-(I)
- (4) (A)-(I), (B)-(II), (C)-(III), (D)-(IV)

Options :

- 212807119253 1
- 212807119254 2
- 212807119255 3
- 212807119256 4

Question Number : 219 Question Id : 21280729814 Question Type : MCQ Option Shuffling : No Is Question Mandatory : No Calculator : None  
Response Time : N.A Think Time : N.A Minimum Instruction Time : 0

Correct Marks : 5 Wrong Marks : 1

Question Key Details :

Key	Value
Comprehension	MCQ

ਸੂਚੀ-I ਦਾ ਸੂਚੀ-II ਨਾਲ ਮਿਲਾਣ ਕਰੋ ।

ਸੂਚੀ-I	ਸੂਚੀ-II
(A) ਰਾਮ ਰਾਯਾ	(I) ਅਰਵੀੰਦ ਸਲਤਨਤ
(B) ਹਰੀਹਾਰਾ ਅਤੇ ਬੁੱਕਾ	(II) ਸਾਲੁਵਾ ਮਲਤਨਤ
(C) ਨਰਸਿਮਹਾ	(III) ਤੁਲੁਵਾ ਸਲਤਨਤ
(D) ਕ੍ਰਿਸ਼ਨਾਦੇਵ ਰਾਯਾ	(IV) ਸੰਗਮ ਸਲਤਨਤ

ਹੇਠ ਲਿਖੇ ਵਿਕਲਪਾਂ ਵਿੱਚ ਸਹੀ ਉੱਤਰ ਦੀ ਚੋਣ ਕਰੋ :

- (1) (A)-(III), (B)-(IV), (C)-(II), (D)-(I)
- (2) (A)-(I), (B)-(IV), (C)-(II), (D)-(III)
- (3) (A)-(II), (B)-(III), (C)-(IV), (D)-(I)
- (4) (A)-(I), (B)-(II), (C)-(III), (D)-(IV)

Options :

- 212807119253 1  
212807119254 2  
212807119255 3  
212807119256 4

Question Number : 219 Question Id : 21280719614 Question Type : MCQ Option Shuffling : No Is Question Mandatory : No Calculator : None  
Response Time : N.A Think Time : N.A Minimum Instruction Time : 0

Correct Marks : 5 Wrong Marks : 1

Question Key Details :

Key	Value
Comprehension	MCQ

ਪੱਛਮੀ ਪੰਜਾਬ ਦੇ ਪੰਜ ਪਿੰਡਾਂ ਨੂੰ ਮਿਲਾ ਕੇ ਪੰਜਾਬ ਦਾ ਗਠਨ ਹੋਇਆ।

ਪੰਜਾਬੀ ਪੰਜਾਬ	ਪੰਜਾਬੀ II
(A) ਰਾਮ ਰਾਯਾ	(I) ਅਰਵੀੰਦ ਅਰਸ ਵੰਸ਼
(B) ਭਗੀਰਠਾ ਅਤੇ ਪੁੱਕਾ	(II) ਸਲੁਵਾ ਅਰਸ ਵੰਸ਼
(C) ਨਰਸਿਮਹਾ	(III) ਤੁਲੁਵਾ ਅਰਸ ਵੰਸ਼
(D) ਕ੍ਰਿਸ਼ਨਾਦੇਵ ਰਾਯਾ	(IV) ਸੰਗਮ ਅਰਸ ਵੰਸ਼

ਹੇਠ ਲਿਖੇ ਵਿਕਲਪਾਂ ਵਿੱਚ ਸਹੀ ਉੱਤਰ ਦੀ ਚੋਣ ਕਰੋ :

- (1) (A)-(III), (B)-(IV), (C)-(II), (D)-(I)
- (2) (A)-(I), (B)-(IV), (C)-(II), (D)-(III)
- (3) (A)-(II), (B)-(III), (C)-(IV), (D)-(I)
- (4) (A)-(I), (B)-(II), (C)-(III), (D)-(IV)

Options :

- 212807119253 1  
212807119254 2  
212807119255 3  
212807119256 4

Question Number : 219 Question Id : 21280719814 Question Type : MCQ Option Shuffling : No Is Question Mandatory : No Calculator : None  
Response Time : N.A Think Time : N.A Minimum Instruction Time : 0

Correct Marks : 5 Wrong Marks : 1

Question Key Details :

Key	Value
Comprehension	MCQ



లస్ట్ - I ను లస్ట్ - II తో జతపరచండి :

లస్ట్ - I

లస్ట్ - II

- |                       |                     |
|-----------------------|---------------------|
| (A) రామ రాయ           | (I) అరవిడు రాజవంశం  |
| (B) హరిహర మరియు బుట్ట | (II) సలువ రాజవంశం   |
| (C) నరసింహ            | (III) తులువ రాజవంశం |
| (D) కృష్ణదేవరాయ       | (IV) సంగమ రాజవంశం   |

కింద ఇవ్వబడిన చిత్రాలలో పరైన సమాధానం ఎన్నుకోండి :

- (1) (A)-(III), (B)-(IV), (C)-(II), (D)-(I)
- (2) (A)-(I), (B)-(IV), (C)-(II), (D)-(III)
- (3) (A)-(II), (B)-(III), (C)-(IV), (D)-(I)
- (4) (A)-(I), (B)-(II), (C)-(III), (D)-(IV)

Options :

- 212807119253\_1  
212807119254\_2  
212807119255\_3  
212807119256\_4

Question Number : 119 Question Id : 21280719814 Question Type : MCQ Option Shuffling : No Is Question Mandatory : No Calculator : None  
Response Time : N.A Think Time : N.A Minimum Instruction Time : 0

Correct Marks : 5 Wrong Marks : 1

Question Key Details :

Key	Value
Comprehension	MCQ

فہرست I کو فہرست II سے ملائیں۔

- | فہرست II                  | فہرست I             |
|---------------------------|---------------------|
| (I) آراవిడు (Aravidu) شای | (A) راما رایا       |
| (II) سالوا (Saluva) شای   | (B) ہریہارا اور بٹا |
| (III) تلووا (Tuluva) شای  | (C) نراسیا          |
| (IV) سنگم (Sangam) شای    | (D) کرشنا ویارا یا  |

دیئے گئے زمروں میں سے درست جواب کا انتخاب کریں۔

- (1) (A)-(III), (B)-(IV), (C)-(II), (D)-(I)
- (2) (A)-(I), (B)-(IV), (C)-(II), (D)-(III)
- (3) (A)-(II), (B)-(III), (C)-(IV), (D)-(I)
- (4) (A)-(I), (B)-(II), (C)-(III), (D)-(IV)

Options :

- 212807119253\_1  
212807119254\_2

212807119253-3  
212807119256-4

Question Number : 220 Question Id : 21280729815 Question Type : MCQ Option Shuffling : No Is Question Mandatory : No Calculator : None  
Response Time : N.A Think Time : N.A Minimum Instruction Time : 0

Correct Marks : 5 Wrong Marks : 1

Question Key Details :

Key	Value
Comprehension	MCQ

Match List - I with List - II :-

List - I	List - II
Agrarian Terms	Meaning
(A) Zamin-i paimuda	(I) Revenue assessed in cash
(B) Nagdi	(II) Grant of revenue in charity
(C) Suyurghal	(III) Measured area
(D) Mahal	(IV) Administrative and fiscal division

Choose the correct answer from the options given below :

- (1) (A)-(I), (B)-(II), (C)-(III), (D)-(IV)
- (2) (A)-(III), (B)-(II), (C)-(I), (D)-(IV)
- (3) (A)-(III), (B)-(I), (C)-(II), (D)-(IV)
- (4) (A)-(I), (B)-(III), (C)-(II), (D)-(IV)

Options :

212807119257-1  
212807119258-2  
212807119259-3  
212807119260-4

Question Number : 220 Question Id : 21280729815 Question Type : MCQ Option Shuffling : No Is Question Mandatory : No Calculator : None  
Response Time : N.A Think Time : N.A Minimum Instruction Time : 0

Correct Marks : 5 Wrong Marks : 1

Question Key Details :

Key	Value
Comprehension	MCQ

सूची-I से सूची-II को मिलान कीजिए:

सूची-I	सूची-II
अंग्रेरियन शब्द	अर्थ
(A) जमीन - ए- पैमुदा	(I) राजस्व जो नगद के रूप में निर्धारित होता है
(B) नगदी	(II) राजस्व अनुदान जो दान में दिया गया
(C) सुयूरगल	(III) मापे गये इलाके
(D) महल	(IV) प्रशासनिक और वित्तीय विभाग

नीचे दिए गए विकल्पों में से सही उत्तर का चयन कीजिए :

- (1) (A)-(I), (B)-(II), (C)-(III), (D)-(IV)
- (2) (A)-(III), (B)-(II), (C)-(I), (D)-(IV)
- (3) (A)-(III), (B)-(I), (C)-(II), (D)-(IV)
- (4) (A)-(I), (B)-(III), (C)-(II), (D)-(IV)

Options :

212807119257.1  
212807119258.2  
212807119259.3  
212807119260.4

Question Number : 220 Question Id : 21280719815 Question Type : MCQ Option Shuffling : No Is Question Mandatory : No Calculator : None  
Response Time : N.A Think Time : N.A Minimum Instruction Time : 0

Correct Marks : 5 Wrong Marks : 1

Question Key Details :

Key	Value
Comprehension	MCQ

তালিকা - I ব সৈতে তালিকা - II মিলোবা :

তালিকা - I

তালিকা - II

অগ্রায়ন সূত্র

অর্থ

- |                     |                                   |
|---------------------|-----------------------------------|
| (A) জমিন-ই পাইনুড়া | (I) নগদ ধনেবে মূল্যায়ন করা বাজার |
| (B) নগদি            | (II) চেবিটিত বাজার অনুদান         |
| (C) সুবুবদাল        | (III) জুবি লোবা অফল               |
| (D) মহল             | (IV) প্রশাসনিক আক বিস্তারিত খণ্ড  |

তলত দিয়া বিকল্পসমূহেরপরা শুদ্ধ উত্তরটো বাছি উলিওবা :

- (1) (A)-(I), (B)-(II), (C)-(III), (D)-(IV)
- (2) (A)-(III), (B)-(II), (C)-(I), (D)-(IV)
- (3) (A)-(III), (B)-(I), (C)-(II), (D)-(IV)
- (4) (A)-(I), (B)-(III), (C)-(II), (D)-(IV)

Options :

212807119257.1  
212807119258.2  
212807119259.3  
212807119260.4

Question Number : 220 Question Id : 21280719815 Question Type : MCQ Option Shuffling : No Is Question Mandatory : No Calculator : None  
Response Time : N.A Think Time : N.A Minimum Instruction Time : 0

Correct Marks : 5 Wrong Marks : 1

Question Key Details :

Key	Value
Comprehension	MCQ

તાલિકા I એમ સાથે તાલિકા II મેલાઉ :

તાલિકા I	તાલિકા II
કૃષિ વિષયક શબ્દ	અર્થ
(A) જામિન-ઈ-પઈમુદા	(I) રાજ્ય નગરો નિર્ધારિત હત
(B) નગરી	(II) સેવાઓ આપવા અનુમોદન
(C) સુબુસ્થલ	(III) પરિમાપિત અક્ષર
(D) મહલ	(IV) પ્રશાસનિક ઓ અર્થતંત્રિક વિભાગ

નિચ્છેલ વિકલ્પોમાંથી યેકે સચ્છિક ઉત્તર ટિ વેર કર :

- (1) (A)-(I), (B)-(II), (C)-(III), (D)-(IV)
- (2) (A)-(III), (B)-(II), (C)-(I), (D)-(IV)
- (3) (A)-(III), (B)-(I), (C)-(II), (D)-(IV)
- (4) (A)-(I), (B)-(III), (C)-(II), (D)-(IV)

Options :

- 212807119257 1  
212807119258 2  
212807119259 3  
212807119260 4

Question Number : 220 Question Id : 21280719815 Question Type : MCQ Option Shuffling : No Is Question Mandatory : No Calculator : None  
Response Time : N.A Think Time : N.A Minimum Instruction Time : 0

Correct Marks : 5 Wrong Marks : 1

Question Key Details :

Key	Value
Comprehension	MCQ

સૂચી-I સાથે સૂચી-II ને જોડો.

સૂચી-I	સૂચી-II
કૃષિ વિષયક શબ્દ	અર્થ
(A) ઝમીન-ઈ-પઈમુદા	(I) રોકડમાં આવકનું મૂલ્યાંકન
(B) નાણી	(II) ધર્મકાર્યમાં (ચેરીટીમાં) આવકનું ગણદાન
(C) સુબુસ્થલ	(III) માપેલા વિસ્તાર
(D) મહલ	(IV) વહીવટી અને નાણાકીય વિભાગ

નીચે આપેલા વિકલ્પોમાંથી સાચો વિક્તર પસંદ કરો :

- (1) (A)-(I), (B)-(II), (C)-(III), (D)-(IV)
- (2) (A)-(III), (B)-(II), (C)-(I), (D)-(IV)
- (3) (A)-(III), (B)-(I), (C)-(II), (D)-(IV)
- (4) (A)-(I), (B)-(III), (C)-(II), (D)-(IV)

Options :

- 212807119257 1  
212807119258 2  
212807119259 3  
212807119260 4

Question Number : 220 Question Id : 21280719815 Question Type : MCQ Option Shuffling : No Is Question Mandatory : No Calculator : None  
Response Time : N.A Think Time : N.A Minimum Instruction Time : 0

Correct Marks : 5 Wrong Marks : 1

Question Key Details :

Key	Value
Comprehension	MCQ

ಪಟ್ಟಿ - I ಮತ್ತು ಪಟ್ಟಿ - II ನ್ನು ಹೊಂದಿಸಿ.

ಪಟ್ಟಿ - I

ಕಲಪಿಯ ಪದಗಳು

- (A) ಜಮೀನು-ಜ ವೈಮುಖ
- (B) ನಾಗಡಿ
- (C) ಸುಲಯುರ್ದಲ್
- (D) ಮಹಲ್

ಪಟ್ಟಿ - II

ಅರ್ಥ

- (I) ಹಣವನ್ನು ನಗದಿಂದ ನಿರ್ಣಯಿಸಲಾಗುತ್ತಿತ್ತು
- (II) ಹಣವನ್ನು ದಾನದ ರೂಪದಲ್ಲಿ ನೀಡುವುದು
- (III) ಅಳತೆ ಮಾಡಿದ ಪ್ರದೇಶ
- (IV) ಆಡಳಿತಾತ್ಮಕ ಮತ್ತು ಹಣಕಾಸು ವಿಭಾಗ

ಕೆಳಗೆ ನೀಡಿರುವ ಆಯ್ಕೆಗಳಿಂದ ಸರಿಯಾದ ಉತ್ತರವನ್ನು ಆರಿಸಿ.

- (1) (A)-(I), (B)-(II), (C)-(III), (D)-(IV)
- (2) (A)-(III), (B)-(II), (C)-(I), (D)-(IV)
- (3) (A)-(III), (B)-(I), (C)-(II), (D)-(IV)
- (4) (A)-(I), (B)-(III), (C)-(II), (D)-(IV)

Options :

- 212807119287 1
- 212807119288 2
- 212807119289 3
- 212807119280 4

Question Number : 126 Question Id : 21280719835 Question Type : MCQ Option Shuffling : No Is Question Mandatory : No Calculator : None  
Response Time : N.A Think Time : N.A Minimum Instruction Time : 0

Correct Marks : 5 Wrong Marks : 1

Question Key Details :

Key	Value
Comprehension	MCQ

ಸೂಚಿ - I ವ ಸೂಚಿ - II ಮಧ್ಯೆ ಯೋಗ್ಯ ಜೊಡ್ಡು ಜುಡ್ಡು :-

ಸೂಚಿ - I

ಶೇತಿಸಿ ಸಂಬಂಧಿತ ಸಂಜ್ಞೆ

- (A) ಜಮೀನು - ಉ - ಪೆಮುಡು
- (B) ನಗರ
- (C) ಸುಯುರ್ದಲ್
- (D) ಮಹಲ್

ಸೂಚಿ - II

ಅರ್ಥ

- (I) ರೋಡು ರೂಮೆಚ್ಚು ಸ್ವರೂಪಾತೀಲ ಮಹಸೂಲ
- (II) ದಾನ ಮ್ಹಣುನು ಮಿಡಾಲೆಲೆಲೆ ಮಹಸೂಲೆ ರುಕ್ಕಮ
- (III) ಮೊಜಲೆಲೆ ಕ್ಷೇತ್ರ
- (IV) ಪ್ರಶಾಸಕೀಯ ವ ರಾಜಕೀಯ ಪ್ರಭಾಗ

ಖಾಲಿ ದಿಲೆಲೆನು ಪರ್ಯಾಯಮಧುನ ಯೋಗ್ಯ ಪರ್ಯಾಯ ನಿವಡು :

- (1) (A)-(I), (B)-(II), (C)-(III), (D)-(IV)
- (2) (A)-(III), (B)-(II), (C)-(I), (D)-(IV)
- (3) (A)-(III), (B)-(I), (C)-(II), (D)-(IV)
- (4) (A)-(I), (B)-(III), (C)-(II), (D)-(IV)

Options :

- 212807119257 1
- 212807119258 2
- 212807119259 3

Question Number : 220 Question Id : 21280729815 Question Type : MCQ Option Shuffling : No Is Question Mandatory : No Calculator : None  
 Response Time : N.A Think Time : N.A Minimum Instruction Time : 0  
 Correct Marks : 5 Wrong Marks : 1

Question Key Details :

Key	Value
Comprehension	MCQ

ലിസ്റ്റ് - I ലിസ്റ്റ് - II യുടെ ചോദ്യംപടി ചോദിക്കുക.

ലിസ്റ്റ് - I

കാർഷിക പദങ്ങൾ

- (A) സമീൻ ഈ പൈതൃക
- (B) നഗ്നീ
- (C) സുയുക്തം
- (D) മഹൽ

ലിസ്റ്റ് - II

അർത്ഥം

- (I) വരുമാനം പൈതൃകമായി അർത്ഥമായി
- (II) സേവനത്തിന് പണം ധനമായി ലഭിച്ചത്
- (III) തിട്ടപ്പെടുത്തിയ സ്ഥലം
- (IV) ഭരണപരവും ധനപരവുമായ വേർതിരിവ്

തന്നിരിക്കുന്നവയിൽ നിന്നും ശരിയുത്തരം തിരഞ്ഞെടുക്കുക.

- (1) (A)-(I), (B)-(II), (C)-(III), (D)-(IV)
- (2) (A)-(III), (B)-(II), (C)-(I), (D)-(IV)
- (3) (A)-(III), (B)-(I), (C)-(II), (D)-(IV)
- (4) (A)-(I), (B)-(III), (C)-(II), (D)-(IV)

Options :

- 212807119257-3
- 212807119258-3
- 212807119259-3
- 212807119260-4

Question Number : 220 Question Id : 21280729815 Question Type : MCQ Option Shuffling : No Is Question Mandatory : No Calculator : None  
 Response Time : N.A Think Time : N.A Minimum Instruction Time : 0  
 Correct Marks : 5 Wrong Marks : 1

Question Key Details :

Key	Value
Comprehension	MCQ

കവിത-I യുടെ കവിത-II ൽ നിന്നും

കവിത-I

മുഖ്യമന്ത്രി

- (A) കവിത-III യുടെ
- (B) കവിത-II
- (C) കവിത-IV
- (D) കവിത-I

കവിത-II

മുഖ്യ

- (I) കവിത-III യുടെ
- (II) കവിത-II
- (III) കവിത-IV
- (IV) കവിത-I

നിന്നും കവിത-II യുടെ കവിത-III ൽ നിന്നും

- (1) (A)-(I), (B)-(III), (C)-(III), (D)-(IV)
- (2) (A)-(III), (B)-(II), (C)-(I), (D)-(IV)
- (3) (A)-(III), (B)-(I), (C)-(II), (D)-(IV)
- (4) (A)-(I), (B)-(III), (C)-(II), (D)-(IV)

Options :

212807119257 1

212807119258 2

212807119259 3

212807119260 4

Question Number : 220 Question Id : 21280729815 Question Type : MCQ Option Shuffling : No Is Question Mandatory : No Calculator : None  
Response Time : N.A Think Time : N.A Minimum Instruction Time : 0

Correct Marks : 5 Wrong Marks : 1

Question Key Details :

Key	Value
Comprehension	MCQ

ਸੂਚੀ-1 ਦਾ ਸੂਚੀ-11 ਨਾਲ ਮਿਲਾਣ ਕਰੋ।

ਸੂਚੀ-1

ਫੁੱਲੀ ਸੁਧਾਰ ਪਦ

(A) ਜ਼ਮੀਨ-ਏ ਪਿੰਡੂਦ

(B) ਨਗਦੀ

(C) ਸੁਧਰਘਲ

(D) ਮਹਿਲ

ਸੂਚੀ-11

ਅਰਥ

(I) ਨਕਦੀ ਰੂਪ 'ਚ ਹਾਸਲ

(II) ਦਾਨ ਵਿਚ ਕਰ ਨੂੰ ਦੇਣਾ

(III) ਮਾਪਿਆ ਖੇਤਰ

(IV) ਪ੍ਰਜਾਸ਼ਕੀ ਅਤੇ ਵਿੱਤ ਵੰਡ

ਹੇਠ ਲਿਖਿਆ ਵਿਕਲਪਾਂ ਵਿੱਚ ਸਹੀ ਉੱਤਰ ਦੀ ਚੋਣ ਕਰੋ :

(1) (A)-(I), (B)-(II), (C)-(III), (D)-(IV)

(2) (A)-(III), (B)-(II), (C)-(I), (D)-(IV)

(3) (A)-(III), (B)-(I), (C)-(II), (D)-(IV)

(4) (A)-(I), (B)-(III), (C)-(II), (D)-(IV)

Options :

212807119257 1

212807119258 2

212807119259 3

212807119260 4

Question Number : 220 Question Id : 21280729815 Question Type : MCQ Option Shuffling : No Is Question Mandatory : No Calculator : None  
Response Time : N.A Think Time : N.A Minimum Instruction Time : 0

Correct Marks : 5 Wrong Marks : 1

Question Key Details :

Key	Value
Comprehension	MCQ

பட்டியல் I -ஐ பட்டியல் II -உடன் பொருத்துக.

பட்டியல் I  
வேளாண் சொற்கள்

பட்டியல் II  
பொருள்

- |                        |                                     |
|------------------------|-------------------------------------|
| (A) ஐமீன்-இ-பாய்முத்தா | (I) பணத்தில் மதிப்பிடப்பட்ட வருவாய் |
| (B) நகீடி              | (II) வருமானத்தில் இருந்து நானம்     |
| (C) சுயூர்கள்          | (III) அளக்கப்பட்ட நிலப் பகுதி       |
| (D) மஹல்               | (IV) நிர்வாகம் மற்றும் நிதி         |

கீழ்க்காண்பதில் சரியான விடையைத் தேர்ந்தெடுக்கவும் :

- (1) (A)-(I), (B)-(II), (C)-(III), (D)-(IV)
- (2) (A)-(III), (B)-(II), (C)-(I), (D)-(IV)
- (3) (A)-(III), (B)-(I), (C)-(II), (D)-(IV)
- (4) (A)-(I), (B)-(III), (C)-(II), (D)-(IV)

Options :

- 212807119257 1  
212807119258 2  
212807119259 3  
212807119260 4

Question Number : 120 Question Id : 21280719815 Question Type : MCQ Option Shuffling : No Is Question Mandatory : No Calculator : None  
Response Time : N.A Think Time : N.A Minimum Instruction Time : 0

Correct Marks : 5 Wrong Marks : 1

Question Key Details :

Key	Value
Comprehension	MCQ

லிஸ்ட் - I ன் லிஸ்ட் - II ன் சேர்வுகளைக் காண்க :

லிஸ்ட் - I

லிஸ்ட் - II

(பயன்பாட்டுச் சொற்கள்)

(அர்த்தம்)

- |                        |   |
|------------------------|---|
| (A) ஐமீன்-இ-பாய்முத்தா | (I) ஆதாயம் நகரம் ரூபத்தில் அளவிடும் வேலம் |
| (B) நகீடி              | (II) டாத்தியத்தில் ஆதாயம் மும்பூரம்       |
| (C) சுயூர்கள்          | (III) கோலிபிசு ப்ரதேசம்                   |
| (D) மஹல்               | (IV) பரிபாலன மூலியம் அடிக்க விழா          |

கீழ்க்காண்பதில் சரியான விடையைத் தேர்ந்தெடுக்கவும் :

- (1) (A)-(I), (B)-(II), (C)-(III), (D)-(IV)
- (2) (A)-(III), (B)-(II), (C)-(I), (D)-(IV)
- (3) (A)-(III), (B)-(I), (C)-(II), (D)-(IV)
- (4) (A)-(I), (B)-(III), (C)-(II), (D)-(IV)

Options :

- 212807119257 1  
212807119258 2  
212807119259 3  
212807119260 4



Question Number : 220 Question Id : 21280719255 Question Type : MCQ Option Shuffling : No Is Question Mandatory : No Calculator : None  
Response Time : N.A Think Time : N.A Minimum Instruction Time : 0

Correct Marks : 5 Wrong Marks : 1

Question Key Details :

Key	Value
Comprehension	MCQ

فہرست I کو فہرست II سے ملائیں۔

فہرست (II) معنی	فہرست (I) زر مٹی اصطلاحات
(I) نقدی میں آمدنی کی پیمائش	(A) زمین ہیودہ (Zamin-i paimuda)
(II) آمدنی کو دان میں ڈالنا	(B) نقدی (Nagdi)
(III) مایا ہوا علاقہ	(C) سویورگھل (Suyurghal)
(IV) انتظام اور رعاشی تقسیم	(D) محل (Mahal)

دیئے گئے انتخابات میں سے درست جواب کا انتخاب کریں۔

- (A)-(I), (B)-(II), (C)-(III), (D)-(IV) (1)  
(A)-(III), (B)-(II), (C)-(I), (D)-(IV) (2)  
(A)-(III), (B)-(I), (C)-(II), (D)-(IV) (3)  
(A)-(I), (B)-(III), (C)-(II), (D)-(IV) (4)

Options :

- 212807119257 1  
212807119258 2  
212807119259 3  
212807119260 4

Question Number : 221 Question Id : 21280719816 Question Type : MCQ Option Shuffling : No Is Question Mandatory : No Calculator : None  
Response Time : N.A Think Time : N.A Minimum Instruction Time : 0

Correct Marks : 5 Wrong Marks : 1

Question Key Details :

Key	Value
Comprehension	MCQ

Identify the correct statement related to classification of land under Akbar.

- (1) 'Polaj' is land that has lain fallow for three or four years.  
(2) 'Chachar' is land which was uncultivated for five years.  
(3) 'Banjar' is a land which was annually cultivated.  
(4) 'Parauti' is land left out of cultivation for a time that it may recover its strength.

Options :

- 212807119261 1  
212807119262 2  
212807119263 3  
212807119264 4

Question Number : 221 Question Id : 21280719816 Question Type : MCQ Option Shuffling : No Is Question Mandatory : No Calculator : None  
Response Time : N.A Think Time : N.A Minimum Instruction Time : 0

Correct Marks : 5 Wrong Marks : 1

Question Key Details :

Key	Value
-----	-------

अकबर के शासन में भूमि के वर्गीकरण का सही कथन पहचानिए :

- (1) 'पोलाज' वह ज़मीन जो तीन-चार वर्षों तक खाली रहती है।
- (2) 'चचर' वह ज़मीन जिस पर पाँच वर्षों में खेती नहीं की गयी हो।
- (3) 'बंजर' वह ज़मीन है जिस पर हर वर्ष खेती होती है।
- (4) 'पर्यती' वह ज़मीन जो कुछ समय के लिये खाली छोड़ दी जाती थी ताकि व फिर से ताकत प्राप्त कर सके।

Options :

- 112807119261 1  
112807119262 2  
112807119263 3  
112807119264 4

Question Number : 221 Question Id : 11280719816 Question Type : MCQ Option Shuffling : No Is Question Mandatory : No Calculator : None  
Response Time : N.A Think Time : N.A Minimum Instruction Time : 0

Correct Marks : 5 Wrong Marks : 1

Question Key Details :

Key	Value
Comprehension	MCQ

উজ্জিবোল বিবেচনা কৰা। শুদ্ধ উক্তি বাছি উলিওৱা।

- (1) "পোলাজ" হৈছে সেই ভূমি যি তিনি-চাৰি বছৰৰ বাবে পতিত ভূমি হিচাপে থাকে।
- (2) 'চাচৰ' হৈছে সেই ভূমি যি পাঁচ বছৰলৈকে খেতি নকৰাকৈ থাকে।
- (3) 'বঞ্জৰ' হৈছে সেই ভূমি য'ত বছৰত এবাৰ খেতি কৰা হয়।
- (4) 'পৰ্যৌতি' হৈছে সেই ভূমি য'ত ভূমিৰ উৰ্বৰ শক্তি উভতি অহালৈ খেতি কৰা বাদ দিয়া হৈছে।

Options :

- 112807119261 1  
112807119262 2  
112807119263 3  
112807119264 4

Question Number : 221 Question Id : 11280719816 Question Type : MCQ Option Shuffling : No Is Question Mandatory : No Calculator : None  
Response Time : N.A Think Time : N.A Minimum Instruction Time : 0

Correct Marks : 5 Wrong Marks : 1

Question Key Details :

Key	Value
Comprehension	MCQ

বিবৃতিগুলি বিবেচনা কৰ। সঠিক উত্তৰটি বেৰ কৰ।

- (1) 'পোলাজ' এমন ভূমি যেটি তিন বা চাৰ বছৰ পতিত রাখা হ'ত।
- (2) 'চাচৰ' এমন ভূমি যেটি পাঁচ বছৰ অক্ষয়িত থাকত।
- (3) 'বানজৰ' এমন ভূমি বছৰে একবাৰ চাৰবাস কৰা হ'ত।
- (4) 'পৰ্যৌটি' এমন ভূমি যেটি কিছু সময়ের জন্য চাৰবাসের আগতৰ বাহিৰে রাখা হ'ত, যাতে সেটি উৰ্বৰতা লাভ কৰতে পাৰে।

Options :

- 112807119261 1  
112807119262 2  
112807119263 3  
112807119264 4

Question Number : 221 Question Id : 11280719816 Question Type : MCQ Option Shuffling : No Is Question Mandatory : No Calculator : None  
Response Time : N.A Think Time : N.A Minimum Instruction Time : 0

Correct Marks : 5 Wrong Marks : 1

Question Key Details :

Key	Value
Comprehension	MCQ

नीचेना वाक्यो ध्यानमां लई सागु परसंद करो :

- (1) 'पोलर' ओ ओवी जमीन छे के ले त्रय वर्षधी भेडाई नथी.
- (2) 'चायर' ओ ओवी जमीन छे के ले पांच वर्षधी भेडाई नथी.
- (3) 'बंजर' ओ ओवी जमीन छे के लेनी वारिडि रीते भेनी थती हत.
- (4) 'पराभोती' ओ ओवी जमीन छे के लेनी थोडाक समय मटे भेडाइभावी वाकाल गणवामा आवे छे के लेधी ते लेनी सजि पुनःप्राप्ति करी शके.

Options :

- 212807119261 1  
212807119262 2  
212807119263 3  
212807119264 4

Question Number : 221 Question Id : 21280719816 Question Type : MCQ Option Shuffling : No Is Question Mandatory : No Calculator : None  
Response Time : N.A Think Time : N.A Minimum Instruction Time : 0

Correct Marks : 5 Wrong Marks : 1

Question Key Details :

Key	Value
Comprehension	MCQ

ಹೇಳಿಕೆಗಳನ್ನು ಪರಿಗಣಿಸಿ, ಸರಿಯಾದವನ್ನು ಆರಿಸಿ :

- (1) 'ಪೋಲರ್' ಒಂದು ಜಮೀನಾಗಿದ್ದು ಮೂರು ಅಥವಾ ನಾಲ್ಕು ವರ್ಷಗಳಿಗೆ ಪಾಲು ಬೆಡಲಾಗುತ್ತಿತ್ತು.
- (2) 'ಚಾಕರ್' ಒಂದು ಜಮೀನಾಗಿದ್ದು, ಐದು ವರ್ಷದ ವರೆಗೆ ಬೆಳೆ ಬೆಳೆಸುತ್ತಿರಲಿಲ್ಲ.
- (3) 'ಬಂಜರ್' ಒಂದು ಜಮೀನಾಗಿದ್ದು ಪ್ರತಿವರ್ಷ ಬೆಳೆ ಬೆಳೆಯುತ್ತಿದ್ದರು.
- (4) 'ಪರೀತಿ'ಯ ಫೂಮಿಯ ಶಕ್ತಿಯನ್ನು ಪುನಃಪಡೆಯುವವರೆಗೆ ಬೆಳೆಸುವಿಕೆಗೆ ಬಳಸದ ಜಮೀನಾಗಿತ್ತು.

Options :

- 212807119261 1  
212807119262 2  
212807119263 3  
212807119264 4

Question Number : 221 Question Id : 21280719816 Question Type : MCQ Option Shuffling : No Is Question Mandatory : No Calculator : None  
Response Time : N.A Think Time : N.A Minimum Instruction Time : 0

Correct Marks : 5 Wrong Marks : 1

Question Key Details :

Key	Value
Comprehension	MCQ

खालील विधाने ध्यातात घ्या. त्यातील योग्य विधान निवडा :

- (1) 'पोलाज' म्हणजे तीन ते चार वर्षे विश्रांती दिली गेलेली जमीन.
- (2) 'चाकर' म्हणजे पाच वर्षे न कसलेली जमीन.
- (3) 'बंजर' म्हणजे वार्षिकरित्या कसली जाणारी जमीन.
- (4) 'परीती' म्हणजे अशा जमीन जी तिच्या क्षमता पूर्वचत होण्यासाठी बाजूला राखून ठेवली जाते.

Options :

- 212807119261 1  
212807119262 2  
212807119263 3  
212807119264 4

Question Number : 221 Question Id : 21280719261 Question Type : MCQ Option Shuffling : No Is Question Mandatory : No Calculator : None Response Time : N.A Think Time : N.A Minimum Instruction Time : 0

Correct Marks : 5 Wrong Marks : 1

Question Key Details :

Key	Value
Comprehension	MCQ

പ്രസ്താവന പരിഭ്രമമായി ശരിയായത് തിരഞ്ഞെടുക്കുക.

- (1) പൊളജ് - മൂന്ന് നാല് വർഷം തരിശിട്ട ഭൂമി
- (2) ചാച്ചർ - അഞ്ച് വർഷം കൃഷി ചെയ്യാത്ത ഭൂമി
- (3) ബച്ചർ - ഏല്പാ വർഷവും കൃഷി ചെയ്യുന്ന സ്ഥലം
- (4) പൂശൂതി - ഫലഭൂയിഷ്ഠി വീണ്ടെടുക്കുന്നത് വരെ കൃഷി ചെയ്യാതിടുന്ന ഭൂമി

Options :

21280719261 1

21280719262 2

21280719263 3

21280719264 4

Question Number : 221 Question Id : 21280719261 Question Type : MCQ Option Shuffling : No Is Question Mandatory : No Calculator : None Response Time : N.A Think Time : N.A Minimum Instruction Time : 0

Correct Marks : 5 Wrong Marks : 1

Question Key Details :

Key	Value
Comprehension	MCQ

ഒറ്റിനു ജന്മനടി രേഖ :

- (1) 'വേലാല' രേഖി ജനി മാല തിരിവു തർക്കം താഴെ നൽകിയ രൂപം.
- (2) 'രേഖ' ജനി വാങ്ങൽ താഴെ നൽകിയ രൂപം.
- (3) 'വേലാല' ജനി തർക്കം താഴെ നൽകിയ രൂപം.
- (4) 'വേലാല' ജനിയെ താഴെ നൽകിയ രൂപം താഴെ നൽകിയ രൂപം/തർക്കം താഴെ നൽകിയ രൂപം.

Options :

21280719261 1

21280719262 2

21280719263 3

21280719264 4

Question Number : 221 Question Id : 21280719261 Question Type : MCQ Option Shuffling : No Is Question Mandatory : No Calculator : None Response Time : N.A Think Time : N.A Minimum Instruction Time : 0

Correct Marks : 5 Wrong Marks : 1

Question Key Details :

Key	Value
Comprehension	MCQ

ਕਥਣਾ ਨੂੰ ਵਿਚਾਰੋ। ਸਹੀ ਦੀ ਚੋਣ ਕਰੋ :

- (1) 'ਪੋਲਾਜ' ਇਕ ਜ਼ਮੀਨ ਹੈ, ਜਿਹੜੀ ਤਿੰਨ ਚਾਰ ਸਾਲਾਂ ਲਈ ਅਣਵਰਤੀ ਫੋਡ ਦਿੱਤੀ ਜਾਂਦੀ ਸੀ।
- (2) 'ਛੱਡਣ' ਇਕ ਜ਼ਮੀਨ ਸੀ, ਜਿਸ ਵਿਚ ਪੰਜ ਸਾਲ ਲਈ ਕੁਝ ਨਹੀਂ ਉਗਾਇਆ ਜਾਂਦਾ ਸੀ।
- (3) 'ਬੰਜਰ' ਜਿਸ ਤੇ ਸਲਾਲਾ ਖੇਤੀ ਕੀਤੀ ਜਾਂਦੀ ਸੀ।
- (4) 'ਪਰੂਤੀ', ਜ਼ਮੀਨ ਦੀ ਉਪਜਾਊ ਸ਼ਕਤੀ ਮੁੜ ਗ੍ਰਹਿਣ ਕਰਨ ਲਈ ਕਾਸ਼ਤ ਤੋਂ ਬਿਨਾਂ ਛੱਡੀ ਗਈ ਜ਼ਮੀਨ।

Options :

21280719261 1

21280719262 2

21280719263 3

21280719264 4

Question Number : 221 Question Id : 21280719816 Question Type : MCQ Option Shuffling : No Is Question Mandatory : No Calculator : None  
Response Time : N.A Think Time : N.A Minimum Instruction Time : 0

Correct Marks : 5 Wrong Marks : 1

Question Key Details :

Key	Value
Comprehension	MCQ

கீழ்க்காணும் கூற்றுகளில் எது சரி என்று கூறவும் :

- (1) 'போலஜ்' என்பது மூன்று அல்லது நான்கு ஆண்டுகளாக தரிசாக கிடக்கும் நிலம்
- (2) 'சச்சார்' என்பது ஐந்து ஆண்டுகளாக பயிரிடப்படாத நிலம்
- (3) 'பஞ்சர்' என்பது ஆண்டுதோறும் பயிரிடப்படும் நிலம்
- (4) Parauti (பரோத்தி) - விளைச்சல் சக்தி அதிகரிப்பதற்காக உழவு செய்யாமல் வைக்கப்படும் நிலம்.

Options :

212807119261 1

212807119262 2

212807119263 3

212807119264 4

Question Number : 221 Question Id : 21280719816 Question Type : MCQ Option Shuffling : No Is Question Mandatory : No Calculator : None  
Response Time : N.A Think Time : N.A Minimum Instruction Time : 0

Correct Marks : 5 Wrong Marks : 1

Question Key Details :

Key	Value
Comprehension	MCQ

ப്രకటనలను అనుసరించండి. సరైన దానిని గుర్తించండి :

- (1) 'పోలాజీ' (Polaj) అనేది మూడు లేదా నాలుగు సంవత్సరాలుగా టీడుగా ఉన్న భూమి
- (2) 'చచార్' (Chachar) అనేది ఐదు సంవత్సరాలుగా సాగుచేయని భూమి
- (3) 'బంజార్' (Banjar) అనేది వార్షికంగా సాగుచేయు భూమి
- (4) 'పరౌతి' (Parauti) దాని సామర్థ్యం తీరిగి పొందడానికి ఆ సమయంలో సాగుచేయకుండా వదిలేసిన భూమి

Options :

212807119261 1

212807119262 2

212807119263 3

212807119264 4

Question Number : 221 Question Id : 21280719816 Question Type : MCQ Option Shuffling : No Is Question Mandatory : No Calculator : None  
Response Time : N.A Think Time : N.A Minimum Instruction Time : 0

Correct Marks : 5 Wrong Marks : 1

Question Key Details :

Key	Value
Comprehension	MCQ

بیانات کو دیکھیں اور درست انتخاب کریں۔

(1) پہل (Polaj) زمین جو تین یا چار سال خالی رہے۔

(2) چھاچھر (Chachar) زمین جس میں پانچ سال زراعت نہ کی گئی ہو۔

(3) بجر (Banjar) زمین جو سالانہ زراعت کی جائے۔

(4) پروتی (Parauti) زمین جس میں زراعت کرنی اس لئے چھوڑی جاتا کہ وہ اپنی طاقت دوبارہ حاصل کر سکے۔

Options :

212507119261 1

212507119262 2

212507119263 3

212507119264 4

Question Number : 222 Question Id : 21250719817 Question Type : MCQ Option Shuffling : No Is Question Mandatory : No Calculator : None

Response Time : N.A Think Time : N.A Minimum Instruction Time : 0

Correct Marks : 5 Wrong Marks : 1

Question Key Details :

Key	Value
Comprehension	MCQ

A Mughal ruler, who recieved the title of 'World-Seizer' was \_\_\_\_\_.

(1) Aurangzeb

(2) Shahjahan

(3) Akbar

(4) Jahangir

Options :

212507119265 1

212507119266 2

212507119267 3

212507119268 4

Question Number : 222 Question Id : 21250719817 Question Type : MCQ Option Shuffling : No Is Question Mandatory : No Calculator : None

Response Time : N.A Think Time : N.A Minimum Instruction Time : 0

Correct Marks : 5 Wrong Marks : 1

Question Key Details :

Key	Value
Comprehension	MCQ

एक मुगल शासक जिसको 'विश्व-जप्ती' (World-Seizer) का उपाधि प्राप्त हुई थी \_\_\_\_\_.

(1) औरंगजेब

(2) शाहजहाँ

(3) अकबर

(4) जहाँगीर

Options :

212507119269 1

212507119270 2

212507119271 3

212507119272 4

Question Number : 222 Question Id : 21250719817 Question Type : MCQ Option Shuffling : No Is Question Mandatory : No Calculator : None

Response Time : N.A Think Time : N.A Minimum Instruction Time : 0

Correct Marks : 5 Wrong Marks : 1

Question Key Details :

Key	Value
Comprehension	MCQ

একজন মোগল শাসক, যিনি (বিশ্ব বিজ্ঞতা) উপাদি পাইছিল, তেওঁ আছিল \_\_\_\_\_।

- (1) ঔৰংজেব
- (2) ছাহজাহান
- (3) আকবর
- (4) জাহাঙ্গীর

Options :

- 212807119263: 1  
212807119266: 2  
212807119267: 3  
212807119268: 4

Question Number : 221 Question Id : 21280719817 Question Type : MCQ Option Shuffling : No Is Question Mandatory : No Calculator : None  
Response Time : N.A Think Time : N.A Minimum Instruction Time : 0

Correct Marks : 5 Wrong Marks : 1

Question Key Details :

Key	Value
Comprehension	MCQ

একজন মুঘল শাসক, এই উপাদি (বিশ্ব-বিজ্ঞতা) গ্রহণ করেছিলেন \_\_\_\_\_।

- (1) আওরঙ্গজেব
- (2) শাহজাহান
- (3) আকবর
- (4) জাহাঙ্গীর

Options :

- 212807119263: 1  
212807119266: 2  
212807119267: 3  
212807119268: 4

Question Number : 222 Question Id : 21280719817 Question Type : MCQ Option Shuffling : No Is Question Mandatory : No Calculator : None  
Response Time : N.A Think Time : N.A Minimum Instruction Time : 0

Correct Marks : 5 Wrong Marks : 1

Question Key Details :

Key	Value
Comprehension	MCQ

\_\_\_\_\_ অঙ্ক মুঘল শাসক কে পেনে অর্ডে সের্গজর (বিদ্যবানো কপলে কলনার)নু পিতৃপু পাম ধনু লগু

- (1) অর্ইলজেব
- (2) শাহজাহান
- (3) অকবর
- (4) জাহাঙ্গীর

Options :

- 212807119263: 1  
212807119266: 2  
212807119267: 3  
212807119268: 4

Question Number : 221 Question Id : 21280719817 Question Type : MCQ Option Shuffling : No Is Question Mandatory : No Calculator : None  
Response Time : N.A Think Time : N.A Minimum Instruction Time : 0

Correct Marks : 5 Wrong Marks : 1

Question Key Details :

Key	Value
Comprehension	MCQ

(ವಿಶ್ವವನ್ನು ವಶಪಡಿಸಿಕೊಳ್ಳುವವ) ಎಂಬ ಶೀರ್ಷಿಕೆಯನ್ನು ಪಡೆದು ಮೊಘಲರ ಆಡಳಿತಗಾರ \_\_\_\_\_.

- (1) ಔರಂಗಜೇಬ್
- (2) ಪರ್ಶಿಯಾನ್
- (3) ಅಕ್ಬರ್
- (4) ಒಹಾನೀರ

Options :

212807119265 1

212807119266 2

212807119267 3

212807119268 4

Question Number : 223 Question Id : 21280719817 Question Type : MCQ Option Shuffling : No Is Question Mandatory : No Calculator : None

Response Time : N.A Think Time : N.A Minimum Instruction Time : 0

Correct Marks : 5 Wrong Marks : 1

Question Key Details :

Key	Value
Comprehension	MCQ

'ವಲೆಡೆ ಸಿಝರ' (ಜಗನ್ಮತಾ) ಅಶಿ ಪದವಿ ಜ್ವಾಲಾ ಸಿವ್ಯಾಲಿ ತಿ ಮುಫಲ ಶಾಸಕ -

- (1) ಔರಂಗಜೇಬ
- (2) ಸಹಾಜಹಾನ
- (3) ಅಕಬರ
- (4) ಜಹಾಂಗೀರ

Options :

212807119265 1

212807119266 2

212807119267 3

212807119268 4

Question Number : 223 Question Id : 21280719817 Question Type : MCQ Option Shuffling : No Is Question Mandatory : No Calculator : None

Response Time : N.A Think Time : N.A Minimum Instruction Time : 0

Correct Marks : 5 Wrong Marks : 1

Question Key Details :

Key	Value
Comprehension	MCQ

ಉರೂಕಂ ಕಿಒಒಕನಿಠವನಗನಾ ಪತ್ತಂ ಸ್ವಿಕಿಠಿಚ್ಚಿ ತ್ಯುಠಲಿ ಠಾಞಾಂವ್ :

- (1) ಉರೂಕನಿಠ
- (2) ಉರೂಕನಿಠ
- (3) ಉರೂಕನಿಠ
- (4) ಉರೂಕನಿಠ

Options :

212807119265 1

212807119266 2

212807119267 3

212807119268 4

Question Number : 223 Question Id : 21280719817 Question Type : MCQ Option Shuffling : No Is Question Mandatory : No Calculator : None



Response Time : N.A Think Time : N.A Minimum Instruction Time : 0

Correct Marks : 5 Wrong Marks : 1

Question Key Details :

Key	Value
Comprehension	MCQ

ନୀଚର ଶ୍ରେଣୀ ଯିଏ କାର୍ଯ୍ୟ ପାଇଁ (ସ୍ଵାକ୍ଷର-ସିଦ୍ଧ) ଚାଲିଯାଇ/ଲପାଟି ପାରିଥାଏ ।

- (1) ଶିଳ୍ପକର
- (2) ଶିଳ୍ପକାର
- (3) ଶିଳ୍ପକର
- (4) ଶିଳ୍ପକାର

Options :

212807119265 1

212807119266 1

212807119267 3

212807119268 4

Question Number : 222 Question Id : 21280719617 Question Type : MCQ Option Shuffling : No Is Question Mandatory : No Calculator : None

Response Time : N.A Think Time : N.A Minimum Instruction Time : 0

Correct Marks : 5 Wrong Marks : 1

Question Key Details :

Key	Value
Comprehension	MCQ

ਮੁਗਲ ਸ਼ାਸକ, ਜਿਸਨੇ (ਸੰਸਾਰ ਨੂੰ ਜਬਤ ਕਰਨ ਵਾਲਾ) ਦੀ ਉਧਾਰੀ ਹਾਸਲ ਕੀਤੀ \_\_\_\_\_ ।

- (1) ਔਰੰਗਜ਼ੇਬ
- (2) ਸ਼ਾਹ ਜਹਾਨ
- (3) ਅਕਬਰ
- (4) ਜਹਾਂਗੀਰ

Options :

212807119265 1

212807119266 2

212807119267 3

212807119268 4

Question Number : 222 Question Id : 21280719617 Question Type : MCQ Option Shuffling : No Is Question Mandatory : No Calculator : None

Response Time : N.A Think Time : N.A Minimum Instruction Time : 0

Correct Marks : 5 Wrong Marks : 1

Question Key Details :

Key	Value
Comprehension	MCQ

உலக ஆக்கிரமிப்பாளர் என்ற பட்டப்பெயர் பெற்ற முகல் ஆட்சியாளர் யார் ?

- (1) ஓளர்ங்கசீப்
- (2) ஷாஜஹான்
- (3) அக்பர்
- (4) ஐஹாங்கிர்

Options :

212807119265 1

212807119266 1

212807119267 3

212807119268 4

Question Number : 223 Question Id : 21280719817 Question Type : MCQ Option Shuffling : No Is Question Mandatory : No Calculator : None  
Response Time : N.A Think Time : N.A Minimum Instruction Time : 0

Correct Marks : 5 Wrong Marks : 1

Question Key Details :

Key	Value
Comprehension	MCQ

(ప్రపంచ-అక్రమకుడు) అనే పేరు పొందిన మొగల్ పాలకుడు ఎవరు ?

- (1) ఔరంగజేబ్
- (2) షాజహాన్
- (3) అశ్రఫ్
- (4) జహంగీర్

Options :

212807119265 1

212807119266 2

212807119267 3

212807119268 4

Question Number : 223 Question Id : 21280719817 Question Type : MCQ Option Shuffling : No Is Question Mandatory : No Calculator : None  
Response Time : N.A Think Time : N.A Minimum Instruction Time : 0

Correct Marks : 5 Wrong Marks : 1

Question Key Details :

Key	Value
Comprehension	MCQ

کس فیصل حکمران کو تاجا بخش عالم (World-Seizer) خطاب دیا گیا

- (1) اورنگ زیب
- (2) شاہجہاد
- (3) اکبر
- (4) جہانگیر

Options :

212807119265 1

212807119266 2

212807119267 3

212807119268 4

Question Number : 223 Question Id : 21280719818 Question Type : MCQ Option Shuffling : No Is Question Mandatory : No Calculator : None  
Response Time : N.A Think Time : N.A Minimum Instruction Time : 0

Correct Marks : 5 Wrong Marks : 1

Question Key Details :

Key	Value
Comprehension	MCQ

Identify the correct statements :

- (A) Gulbadan Begum wrote 'Humayun Nama'.
- (B) Gulbadan could not write fluently in Turkish.
- (C) Gulbadan was the daughter of Babur.
- (D) Gulbadan in her writings described the conflicts among the Princes and Kings.
- (E) Gulbadan was the daughter of Jahangir.

Choose the correct answer from the options given below :

- (1) (A), (C), (D) only
- (2) (A), (B), (C) only
- (3) (A), (C), (E) only
- (4) (D), (B), (E) only

Options :

212807119269 1

212807119270 2

212807119271 3

212807119272 4

Question Number : 223 Question Id : 21280719818 Question Type : MCQ Option Shuffling : No Is Question Mandatory : No Calculator : None

Response Time : N.A Think Time : N.A Minimum Instruction Time : 0

Correct Marks : 5 Wrong Marks : 1

Question Key Details :

Key	Value
Comprehension	MCQ

कथनों को ध्यानपूर्वक पढ़िये और सही कथन पहचानिए :

- (A) गुलबदन बेगम ने 'हुमायूनामा' लिखा।
- (B) गुलबदन तुर्की भाषा धारा प्रवाह से नहीं लिख सकती थी।
- (C) गुलबदन बाबर की बेटा थी।
- (D) गुलबदन ने अपने लेखन में राजकुमारी और राजा के संघर्ष का वर्णन किया है।
- (E) गुलबदन जहाँगीर की बेटा थी।

नीचे दिए गए विकल्पों में से सही उत्तर का चयन कीजिए :

- (1) केवल (A), (C), (D)
- (2) केवल (A), (B), (C)
- (3) केवल (A), (C), (E)
- (4) केवल (D), (B), (E)

Options :

212807119269 1

212807119270 2

212807119271 3

212807119272 4

Question Number : 223 Question Id : 21280719818 Question Type : MCQ Option Shuffling : No Is Question Mandatory : No Calculator : None

Response Time : N.A Think Time : N.A Minimum Instruction Time : 0

Correct Marks : 5 Wrong Marks : 1

Question Key Details :

Key	Value
Comprehension	MCQ

শুদ্ধ উক্তিখোৰ বাছি উলিওৱা :

- (A) হুমায়ূন নামা গুলবদন বেগমে লিখিছিল।
- (B) গুলবদনে ভালদৰে তুৰ্কী ভাষা লিখি নোৱাৰিছিল।
- (C) গুলবদন বাবৰ জীয়েক আছিল।
- (D) গুলবদনে তেওঁৰ লিখনিত (ৰাজকুমাৰী) ৰাজকন্যা আৰু বজাৰ মাজৰ সংঘাতক উল্লেখ কৰিছিল।
- (E) গুলবদন জাহাঙ্গীৰৰ জীয়েক আছিল।

তলত দিয়া বিকল্পসমূহৰপৰা শুদ্ধ উক্ত্যটো বাছি উলিওৱা :

- (1) কেৱল (A), (C) আৰু (D)
- (2) কেৱল (A), (B) আৰু (C)
- (3) কেৱল (A), (C) আৰু (E)
- (4) কেৱল (D), (B) আৰু (E)

Options :

112807119269 1

112807119270 2

112807119271 3

112807119272 4

Question Number : 223 Question Id : 21280719818 Question Type : MCQ Option Shuffling : No Is Question Mandatory : No Calculator : None  
Response Time : N.A Think Time : N.A Minimum Instruction Time : 0

Correct Marks : 5 Wrong Marks : 1

Question Key Details :

Key	Value
Comprehension	MCQ

বিবৃতিগুলি যত্ন সহকাৰে পঢ়ো :

- (A) গুলবদন বেগম হুমায়ূন নামা লিখেছিলেন।
- (B) গুলবদন বেগম তুৰ্কী ভাষা লিখতে সঁজুলি ছিলেন না।
- (C) গুলবদন বাবদেৱৰ কন্যা ছিলেন।
- (D) গুলবদন ত্ৰাৰ লেখাৰ ৰাজপুত্ৰ ও ৰাজাৰ মধ্যৰে বশ্ৰেৰ বৰ্ণনা প্ৰদান কৰেছে।
- (E) গুলবদন জাহাঙ্গীৰেৰ কন্যা ছিলেন।

নিচৰে বিকল্পগুলি থেকে সঠিক উক্ত্যটি বেৰ কৰা :

- (1) কেৱলমাত্ৰ (A), (C) এৰং (D)
- (2) কেৱলমাত্ৰ (A), (B) এৰং (C)
- (3) কেৱলমাত্ৰ (A), (C) এৰং (E)
- (4) কেৱলমাত্ৰ (D), (B) এৰং (E)

Options :

112807119269 1

112807119270 2

112807119271 3

112807119272 4

Question Number : 223 Question Id : 21280719818 Question Type : MCQ Option Shuffling : No Is Question Mandatory : No Calculator : None  
Response Time : N.A Think Time : N.A Minimum Instruction Time : 0

Correct Marks : 5 Wrong Marks : 1

Question Key Details :

Key	Value
Comprehension	MCQ

નીચેનામાંથી સાચા વિધાનો ઓળખો.

- (A) ગુલબદન બેગમે ક્રમાયુનામા લખ્યું હતું.
- (B) ગુલબદન અરબલીનપલે તુર્કીમાં લખી શકતા ન હતો.
- (C) ગુલબદન બાબરના પુત્રી હતો.
- (D) ગુલબદને તેમના લખાઓમાં રાજ અને રાજકુંબરો વચ્ચેના સંઘર્ષનું નિરૂપણ કર્યું છે.
- (E) ગુલબદન જહાંગીરના પુત્રી હતો.

નીચે આપેલા વિકલ્પોમાંથી સાચો ઉત્તર પસંદ કરો :

- (1) ફક્ત (A), (C) અને (D)
- (2) ફક્ત (A), (B) અને (C)
- (3) ફક્ત (A), (C) અને (E)
- (4) ફક્ત (D), (B) અને (E)

Options :

212807119269 1

212807119270 2

212807119271 3

212807119272 4

Question Number : 213 Question Id : 21280719835 Question Type : MCQ Option Shuffling : No Is Question Mandatory : No Calculator : None  
Response Time : N/A Think Time : N/A Minimum Instruction Time : 0

Correct Marks : 5 Wrong Marks : 1

Question Key Details :

Key	Value
Comprehension	MCQ

સરિયાદ હોલકેશનું ગુણત્વ :

- (A) ગુલબદન દેશનું યુવાઓના નામનો બંધન બંધન
- (B) ગુલબદન બંધન બાબરની સૃષ્ટિવાળી બંધનબંધન
- (C) ગુલબદનના બંધન બંધન
- (D) ગુલબદનના બંધન બંધન બંધન બંધન બંધન બંધન
- (E) ગુલબદનના બંધન બંધન બંધન

કેશનું નોંધાયેલ બંધનબંધન સરિયાદ બંધનબંધન બંધન.

- (1) (A), (C) ಮತ್ತು (D) માત્ર
- (2) (A), (B) ಮತ್ತು (C) માત્ર
- (3) (A), (C) અને (E) માત્ર
- (4) (D), (B) અને (E) માત્ર

Options :

212807119269 1

212807119270 2

212807119271 3

212807119272 4

Question Number : 123 Question Id : 21280719815 Question Type : MCQ Option Shuffling : No Is Question Mandatory : No Calculator : None  
Response Time : N.A Think Time : N.A Minimum Instruction Time : 0

Correct Marks : 5 Wrong Marks : 1

Question Key Details :

Key	Value
Comprehension	MCQ

खालीलपैकी योग्य विधान ओळखा.

- (A) गुलबदन बेगम यांनी हुमायूनामा लिहिला.
- (B) गुलबदन तुर्की भाषेत मराईतपणे लिहू शकत नव्हती.
- (C) गुलबदन आबराची मुलगी होती.
- (D) गुलबदनने तिच्या लिखाणातून राजकुमार व राजे यांच्यातील संघर्षांचे वर्णन केले.
- (E) गुलबदन जहांगीराची मुलगी होती.

खाली दिलेल्या पर्यायांमधून योग्य पर्याय निवडा :

- (1) फक्त (A), (C) आणि (D)
- (2) फक्त (A), (B) आणि (C)
- (3) फक्त (A), (C) आणि (E)
- (4) फक्त (D), (B) आणि (E)

Options :

- 212807119269 1
- 212807119270 2
- 212807119271 3
- 212807119272 4

Question Number : 123 Question Id : 21280719815 Question Type : MCQ Option Shuffling : No Is Question Mandatory : No Calculator : None  
Response Time : N.A Think Time : N.A Minimum Instruction Time : 0

Correct Marks : 5 Wrong Marks : 1

Question Key Details :

Key	Value
Comprehension	MCQ

ശ്രദ്ധിച്ചു വായിക്കുക.

- (A) ഗുൽബന്ധൻ ബീഗം ഹുമയൂൺ നാമ രചിച്ചു.
- (B) ഗുൽബന്ധൻ തുർക്കി ശരിയായി എഴുതാൻ അറിയില്ലായിരുന്നു.
- (C) ഗുൽബന്ധൻ ബാബറുടെ മകളായിരുന്നു.
- (D) ഗുൽബന്ധൻ രാജാവു കൂമാരൻമാരും തമ്മിലുള്ള സംഘർഷങ്ങളെപ്പറ്റി തന്റെ രചനയിൽ പ്രതിപാദിച്ചിരുന്നു.
- (E) ഗുൽബന്ധൻ ജഹാംഗീറിന്റെ മകളായിരുന്നു.

താഴെ തന്നിരിക്കുന്നവയിൽ നിന്നും ശരിയുത്തരം തിരഞ്ഞെടുക്കുക.

- (1) (A), (C), (D) എന്നിവ മാത്രം
- (2) (A), (B), (C) എന്നിവ മാത്രം
- (3) (A), (C), (E) എന്നിവ മാത്രം
- (4) (D), (B), (E) എന്നിവ മാത്രം

Options :

- 212807119269 1

212807119270\_1  
212807119271\_3  
212807119272\_4

Question Number : 223 Question Id : 21280729818 Question Type : MCQ Option Shuffling : No Is Question Mandatory : No Calculator : None  
Response Time : N.A Think Time : N.A Minimum Instruction Time : 0

Correct Marks : 5 Wrong Marks : 1

Question Key Details :

Key	Value
Comprehension	MCQ

ପଠିତ ଲେଖକ ସବୁ ଚେଲା :

- (A) ଭୁଲବଦନ ବେଳମ ଲେଖକଙ୍କ ଦୁମାୟୁନ ନାମା ।
- (B) ଭୁଲବଦନ ଲଳିତାବେ ଦୁର୍ଲ୍ଲଭ ଲେଖପାତ୍ରଲେଖକ ।
- (C) ଭୁଲବଦନ ବାବରାଜ ଝିଅ ।
- (D) ଭୁଲବଦନ ଲେଖୁଥିଲେ ଗଜପୁର ଓଥା ଗାଡ଼ାକ ବିଭାଗୀୟାଞ୍ଚ ସମ୍ପର୍କରେ ।
- (E) ଭୁଲବଦନ ଜାହାଜିରାଜ ଝିଅ ।

ନିମ୍ନରେ ଦିଆଯାଇଥିବା ବିକଳ୍ପ ମଧ୍ୟରୁ ସଠିକ୍ ଉତ୍ତରକୁ ଚିହ୍ନଟ କରନ୍ତୁ ।

- (1) ଉତ୍ତର (A), (C) ଏବଂ (D)
- (2) ଉତ୍ତର (A), (B) ଏବଂ (C)
- (3) ଉତ୍ତର (A), (C) ଏବଂ (E)
- (4) ଉତ୍ତର (D), (B) ଏବଂ (E)

Options :

212807119269\_1  
212807119270\_1  
212807119271\_3  
212807119272\_4

Question Number : 223 Question Id : 21280729818 Question Type : MCQ Option Shuffling : No Is Question Mandatory : No Calculator : None  
Response Time : N.A Think Time : N.A Minimum Instruction Time : 0

Correct Marks : 5 Wrong Marks : 1

Question Key Details :

Key	Value
Comprehension	MCQ

ਕਥਨਾਂ ਨੂੰ ਧਿਆਨ ਨਾਲ ਪੜ੍ਹੋ ।

- (A) ਗੁਲਬਦਨ ਬੇਗਮ ਨੇ ਹੁਮਾਯੂ ਨਾਮਾ ਲਿਖਿਆ ।
- (B) ਗੁਲਬਦਨ ਤੁਰਕੀ ਭਾਸ਼ਾ ਵਿਚ ਤੇਜੀ ਨਾਲ ਨਹੀਂ ਲਿਖਦੀ ਸੀ ।
- (C) ਗੁਲਬਦਨ ਬਾਬਰ ਦੀ ਧੀ ਸੀ ।
- (D) ਗੁਲਬਦਨ ਆਪਣੀਆਂ ਲਿਖਤਾਂ ਵਿਚ ਰਾਜਿਆਂ ਅਤੇ ਰਾਜਕੁਮਾਰਾਂ ਦੇ ਝਗੜਿਆਂ ਦਾ ਵਰਣਨ ਕਰਦੀ ਸੀ ।
- (E) ਗੁਲਬਦਨ ਜਹਾਂਗੀਰ ਦੀ ਧੀ ਸੀ ।

ਹੇਠ ਲਿਖਿਆਂ ਵਿਕਲਪਾਂ ਵਿੱਚ ਸਹੀ ਉੱਤਰ ਦੀ ਚੋਣ ਕਰੋ :

- (1) ਸਿਰਫ਼ (A), (C) ਅਤੇ (D)
- (2) ਸਿਰਫ਼ (A), (B) ਅਤੇ (C)
- (3) ਸਿਰਫ਼ (A), (C) ਅਤੇ (E)
- (4) ਸਿਰਫ਼ (D), (B) ਅਤੇ (E)

Options :

- 212807119269 1
- 212807119270 2
- 212807119271 3
- 212807119272 4

Question Number : 223 Question Id : 21280719818 Question Type : MCQ Option Shuffling : No Is Question Mandatory : No Calculator : None Response Time : N.A Think Time : N.A Minimum Instruction Time : 0

Correct Marks : 5 Wrong Marks : 1

Question Key Details :

Key	Value
Comprehension	MCQ

கீழ்க்காணும் கூற்றுக்களைக் கவனமாகப் படிக்கவும் :

- (A) 'ஹீமாயூன் நாமா'-வை குல்பதன் பேசும் இயற்றினார்.
- (B) குல்பதன் என்பவரால் துருக்கிய மொழியில் சரளமாக எழுதமுடியவில்லை.
- (C) பாபரின் மகள் குல்பதன்.
- (D) குல்பதன் தனது எழுத்துக்களில் அரசர் மற்றும் சிற்றரசர்களுக்கு இடையேயான முரண்பாடுகள் குறித்து விவரித்துள்ளார்.
- (E) குல்பதன், ஜஹாங்கிரின் மகள்.

கீழ்க்காணும் விருப்பத் தொகுதிகளில் இருந்து சரியான விடையைத் தேர்ந்தெடுக்கவும் :

- (1) (A), (C) மற்றும் (D) மட்டும்
- (2) (A), (B) மற்றும் (C) மட்டும்
- (3) (A), (C) மற்றும் (E) மட்டும்
- (4) (D), (B) மற்றும் (E) மட்டும்

Options :

- 212807119269 1
- 212807119270 2
- 212807119271 3
- 212807119272 4

Question Number : 223 Question Id : 21280719818 Question Type : MCQ Option Shuffling : No Is Question Mandatory : No Calculator : None Response Time : N.A Think Time : N.A Minimum Instruction Time : 0



Correct Marks : 5 Wrong Marks : 1

Question Key Details :

Key	Value
Comprehension	MCQ

ప్రకటనలను జాగ్రత్తగా చదవండి.

- (A) హామాయున్ నామంను గుల్బదన్ దేగం రాసింది
- (B) టర్కిష్లో గుల్బదన్ అనర్గళముగా వ్రాయలేదు
- (C) బాబర్ కూతురు గుల్బదన్
- (D) రాజులు మరియు రాజకుమారుల విభేదాల గురించి గుల్బదన్ తన రచనలలో వివరించింది
- (E) జహంగీర్ కూతురు గుల్బదన్

కింద ఇవ్వబడిన వికల్పాలలో సరైన సమాధానం ఎన్నుకోండి :

- (1) (A), (C) మరియు (D) మాత్రమే
- (2) (A), (B) మరియు (C) మాత్రమే
- (3) (A), (C) మరియు (E) మాత్రమే
- (4) (D), (B) మరియు (E) మాత్రమే

Options :

212807119269-1

212807119270-2

212807119271-3

212807119272-4

Question Number : 223 Question Id : 21280719818 Question Type : MCQ Option Shuffling : No Is Question Mandatory : No Calculator : None  
Response Time : N.A Think Time : N.A Minimum Instruction Time : 0

Correct Marks : 5 Wrong Marks : 1

Question Key Details :

Key	Value
Comprehension	MCQ

بیانات کو پڑھیں اور درست کا انتخاب کریں۔

(A) گلبدن بیگم نے ہمایوں نام لکھا۔

(B) گلبدن سلیم ترکش نہیں لکھ پائی۔

(C) گلبدن بابر کی بیٹی تھی۔

(D) گلبدن نے اپنی تحریروں میں بادشاہوں اور شہزادوں کے سچے تناؤ کو پیش کیا ہے۔

(E) گلبدن جہانگیر کی بیٹی تھی۔

دیے گئے انتخابات میں سے درست جواب کا انتخاب کریں۔

(1) (A), (C) اور (D) صرف

(2) (A), (B) اور (C) صرف

(3) (A), (C) اور (E) صرف

(4) (B), (D) اور (E) صرف

Options :

212807119269 1

212807119270 2

212807119271 3

212807119272 4

Question Number : 224 Question Id : 21280729819 Question Type : MCQ Option Skuffling : No Is Question Mandatory : No Calculator : None Response Time : N.A Think Time : N.A Minimum Instruction Time : 0

Correct Marks : 5 Wrong Marks : 1

Question Key Details :

Key	Value
Compression	MCQ

Choose the correct statements about the Revolt of 1857 :

(A) The rebels have not left any records on their point of view.

(B) The British official accounts abound in the form of letters, diaries, autobiographies and official histories.

(C) British newspapers and magazines narrate in gory detail the violence of the mutineers.

(D) Pictorial images produced by the British and Indians constitute an important record of the mutiny.

(E) British newspapers and magazine stories did not inflame public feelings and provoked demands of retribution and revenge.

Choose the correct answer from the options given below :

(1) (A), (B), (C) only

(2) (B), (C), (D) only

(3) (A), (E), (D) only

(4) (A), (B), (D) only

Options :

212807119273 1

212807119274 2

212807119275 3

212507119275-4

Question Number : 214 Question Id : 21280719819 Question Type : MCQ Option Shuffling : No Is Question Mandatory : No Calculator : None  
Response Time : N.A Think Time : N.A Minimum Instruction Time : 0

Correct Marks : 5 Wrong Marks : 1

Question Key Details :

Key	Value
Comprehension	MCQ

1857 के विद्रोह के संबंध में सही कथन चुनिए :

- (A) विद्रोहियों ने अपने विचार से कोई दस्तावेज नहीं छोड़ा।
- (B) अंग्रेज अधिकारियों के विवरण पत्रों, डायरियों और आत्मकथाओं के रूप में संकलित थे।
- (C) अंग्रेजी समाचार पत्र और पत्रिकाओं ने विद्रोहियों के उग्र खूनी वृत्तों का वर्णन किया।
- (D) अंग्रेज और भारतीय अधिकारियों द्वारा प्रस्तुत विद्रोह के छवि चित्र एक महत्वपूर्ण दस्तावेज थे।
- (E) अंग्रेज समाचार पत्रों और पत्रिकाओं की कहानियों ने आम जन की भावनाओं को नहीं भड़काया तथा प्रतिशोध और बदले को भावना को प्रेरित किया।

नीचे दिए गए विकल्पों में से सही उत्तर का चयन कीजिए :

- (1) केवल (A), (B), (C)
- (2) केवल (B), (C), (D)
- (3) केवल (A), (E), (D)
- (4) केवल (A), (B), (D)

Options :

212507119273-1

212507119274-2

212507119275-3

212507119276-4

Question Number : 214 Question Id : 21280719819 Question Type : MCQ Option Shuffling : No Is Question Mandatory : No Calculator : None  
Response Time : N.A Think Time : N.A Minimum Instruction Time : 0

Correct Marks : 5 Wrong Marks : 1

Question Key Details :

Key	Value
Comprehension	MCQ

1857 চনৰ বিদ্ৰোহৰ ওপৰত দিয়া শুদ্ধ উক্তিটো বাছি উলিওৱা :

- (A) বিদ্ৰোহীসকলে তেওঁলোকৰ নৃসিংহত্ববীৰ কোনে অভিলেখ এৰি যোৱা নহি।
- (B) ব্ৰিটিছৰ বিদগ্ৰাসকলে চৰকাৰী বিৱৰ্তীসমূহ বন্ধা হৈছে চিঠি, ডায়েৰী, আত্মজীৱনী আৰু চৰকাৰী ইতিহাসত।
- (C) ব্ৰিটিছ বাতৰিকাকত আৰু আলোচনীয়ে বিদ্ৰোহীসকলৰ হিংসাত্মক বিৱৰণ বিশদভাৱে বৰ্ণনা কৰে।
- (D) ব্ৰিটিছ আৰু ভাৰতীয়ই প্ৰস্তুত কৰা চিত্ৰকল্পই বিদ্ৰোহৰ এক গুৰুত্বপূৰ্ণ অভিলেখ গঠন কৰে।
- (E) ব্ৰিটিছ বাতৰিকাকত আৰু আলোচনীৰ কাহিনীবোৰে জনসাধাৰণৰ অনুভূতি জ্বলোৱা নাছিল আৰু প্ৰতিশোধৰ দাবী উত্থাপন কৰিছিল।

তলত দিয়া বিকল্পসমূহৰপৰা শুদ্ধ উত্তৰটো বাছি উলিওৱা :

- (1) কেৱল (A), (B), (C)
- (2) কেৱল (B), (C), (D)
- (3) কেৱল (A), (E), (D)
- (4) কেৱল (A), (B), (D)

Options :

- 212807119273 1
- 212807119274 2
- 212807119275 3
- 212807119276 4

Question Number : 224 Question Id : 21280719819 Question Type : MCQ Option Shuffling : No Is Question Mandatory : No Calculator : None  
Response Time : N/A Think Time : N/A Minimum Instruction Time : 0

Correct Marks : 5 Wrong Marks : 1

Question Key Details :

Key	Value
Comprehension	MCQ

1857 ৰ বিদ্ৰোহ সম্পৰ্কিত সঠিক বিবৃতিগুলি বেৰ কৰ :

- (A) বিদ্ৰোহীৰা তাদেৰ নিজেদেৰ দিক দেখে কোন নথিপত্ৰ ৰাখেনি।
- (B) ব্ৰিটিশ আধিকাৰিকৰা সরকারি নথিপত্ৰ চিঠি, ডায়েৰী, আত্মজীৱিত ও অন্যান্য সরকারী ইতিহাস আকাৰে ৰাখেছিল।
- (C) ব্ৰিটিশ সংবাদপত্ৰ ও মাগাজিন বিদ্ৰোহীদেৰ হিংসাত্মক কাৰ্যকলাপকে গৰ্বেৰ বন্ধ হিসেবে তুলে ধাৰেছিল।
- (D) ব্ৰিটিশ ও ভাৰতীয়দেৰ কৰ্তৃক অঙ্কিত চিত্ৰ সামগ্ৰীগুলি বিদ্ৰোহেৰ গুৰুত্বপূৰ্ণ নথিপত্ৰ।
- (E) ব্ৰিটিশ সংবাদপত্ৰ ও মাগাজিনগুলিতে প্ৰকাশিত ৰচনাগুলি জনসাধাৰণেৰ অনুভূতিকে উজ্জ্বল কৰে তুলো ধৰেনি বৰং অপ্ৰাধেৰ শাস্তি ও প্ৰতিশোধেৰ দাবীতে উত্থানি দিয়েছিল।

নিচৰ বিকল্পগুলি থেকে সঠিক উত্তৰটি বেৰ কৰ :

- (1) কেৱলমাত্ৰ (A), (B), (C)
- (2) কেৱলমাত্ৰ (B), (C), (D)
- (3) কেৱলমাত্ৰ (A), (E), (D)
- (4) কেৱলমাত্ৰ (A), (B), (D)

Options :

- 212807119273 1
- 212807119274 2
- 212807119275 3
- 212807119276 4

Question Number : 224 Question Id : 21280719819 Question Type : MCQ Option Shuffling : No Is Question Mandatory : No Calculator : None  
 Response Time : N.A Think Time : N.A Minimum Instruction Time : 0  
 Correct Marks : 5 Wrong Marks : 1  
 Question Key Details :

Key	Value
Comprehension	MCQ

1857 ના બળવા સાથે સંબંધિત વિધાનોમાંથી સાચા વિધાનો પસંદ કરો.

- (A) બળવાખોરોએ તેમનો દરિદ્રકોણ ધરાવતો કોઈ દસ્તાવેજ ( પુરાવો) છોડ્યો નથી.
- (B) બ્રિટિશ સત્તાવાર દસ્તાવેજો પત્રો, જાપરીઓ, આત્મકથાઓ અને સત્તાવાર ઇતિહાસકારોના સ્વરૂપમાં વિપુલ પ્રમાણમાં મળે છે.
- (C) બ્રિટિશ અખબારો અને સામયિકો બળવાખોરોની હિંસાનુ મદદિમા કરતા વિગતવાર વર્ણનો કરે છે.
- (D) બ્રિટિશ અને ભારતીયો દ્વારા રચાયેલી ચિત્રાલંક છબીઓ વિહોણાની મહત્વનો દસ્તાવેજ બનાવે છે.
- (E) બ્રિટિશ અખબારો અને સામયિકોની વાતો પ્રજાની લાગણીઓને મડકાવતી નથી અને પ્રતિકાર અને બદલાની માંગને દિશકેરતી નથી.

નીચે આપેલ વિકલ્પોમાંથી સાચો ઉત્તર આપો.

- (1) ફક્ત (A), (B), (C)
- (2) ફક્ત (B), (C), (D)
- (3) ફક્ત (A), (E), (D)
- (4) ફક્ત (A), (B), (D)

Options :

212807119273 1

212807119274 2

212807119275 3

212807119276 4

Question Number : 224 Question Id : 21280719819 Question Type : MCQ Option Shuffling : No Is Question Mandatory : No Calculator : None  
 Response Time : N.A Think Time : N.A Minimum Instruction Time : 0  
 Correct Marks : 5 Wrong Marks : 1  
 Question Key Details :

Key	Value
Comprehension	MCQ

1957ರ ದಂಗೆಗೆ ಸಂಬಂધಿಸಿದಂತೆ સરಿಯಾದ ಹેલકેಗಳನ್ನು ಆರಿಸಿ :

- (A) બંધાયેલા ગાંધીજીની આજ્ઞાઓ યાદીમાં દાખલ કરવામાં આવેલા ઘટનાઓ
- (B) બ્રિટીશ દાખલો કરવામાં આવેલા દિવસો અને સ્થળો અને અધિકૃત ઇતિહાસકારો દ્વારા રજૂ કરેલા દસ્તાવેજો
- (C) બ્રિટીશ સત્તાવાર દસ્તાવેજો અને સામયિકો દ્વારા દર્શાવેલા ગાંધીજીના ગાંધીજીની રક્તમય પાંચાઈ.
- (D) બ્રિટીશ અને ભારતીયો દ્વારા રચાયેલા ચિત્રાલંક છબીઓ વિહોણાની મહત્વનો દસ્તાવેજ બનાવે છે.
- (E) બ્રિટીશ અખબારો અને સામયિકોની વાતો પ્રજાની લાગણીઓને મડકાવતી નથી અને પ્રતિકાર અને બદલાની માંગને દિશકેરતી નથી.

કેંદ્રે દર્શાવેલ આજ્ઞાઓ સરಿಯાદ ઘટનાઓ, આરોપો, આત્મકથાઓ અને સત્તાવાર ઇતિહાસકારોના સ્વરૂપમાં વિપુલ પ્રમાણમાં મળે છે.

- (1) (A), (B), (C) માત્ર
- (2) (B), (C), (D) માત્ર
- (3) (A), (E), (D) માત્ર
- (4) (A), (B), (D) માત્ર

Options :

212807119273 1

212807119274 2

212807119275 3

212807119276 4

Question Number : 224 Question Id : 21280729819 Question Type : MCQ Option Shuffling : No Is Question Mandatory : No Calculator : None  
Response Time : N.A Think Time : N.A Minimum Instruction Time : 0

Correct Marks : 5 Wrong Marks : 1

Question Key Details :

Key	Value
Comprehension	MCQ

1857 च्या उठावाच्या संदर्भात योग्य विधान निवडा.

- (A) उठावकर्त्यांनी त्यांच्या दृष्टीकोनातून असलेले कोणतेही पुरावे मागे ठेवले नाहीत.
- (B) पत्रे, दैनंदिनी, आत्मचरित्रे आणि कार्यालयीन अभिलेख या स्वरूपात ब्रिटिशांचे अधिकृत अभिलेख उपलब्ध आहेत.
- (C) उठावकर्त्यांनी केलेल्या हिंसाचारा विषयी छोट्या छोट्या नोंदी देखील ब्रिटिश वृत्तपत्रे आणि नियत कालिकांनी उचलून भरल्या.
- (D) ब्रिटिशांनी आणि भारतीयांनी काढलेली उठावाची चित्रे हा उठावा विषयाचा महत्त्वाचा पुरावा आहे.
- (E) ब्रिटिश वृत्तपत्रे आणि नियत कालिकांमधील कथांनी लोकांच्या भावना भडकावल्या नाहीत आणि त्यांनी बदला किंवा सुद्ध घेण्याची मागणी केली नाही.

खाली दिलेल्या पर्यायांमधून योग्य पर्याय निवडा :

- (1) फक्त (A), (B), (C)
- (2) फक्त (B), (C), (D)
- (3) फक्त (A), (E), (D)
- (4) फक्त (A), (B), (D)

Options :

212807119273 1

212807119274 2

212807119275 3

212807119276 4

Question Number : 224 Question Id : 21280729819 Question Type : MCQ Option Shuffling : No Is Question Mandatory : No Calculator : None  
Response Time : N.A Think Time : N.A Minimum Instruction Time : 0

Correct Marks : 5 Wrong Marks : 1

Question Key Details :

Key	Value
Comprehension	MCQ

1857 ലെ വിപ്ലവത്തെപ്പറ്റി ശരിയായ പ്രസ്താവന തിരഞ്ഞെടുക്കുക.

- (A) കലാപകാരികൾ ഒരു ദേവതയും അവശേഷിപ്പിച്ചില്ല.
- (B) ബ്രിട്ടീഷുകാരുടെ എഴുത്തുകൾ ഡയറികൾ ആത്മകഥകൾ ഔദ്യോഗിക ചരിത്രം എന്നിവ ഒരുപാട് ഉണ്ടായിരുന്നു.
- (C) ബ്രിട്ടീഷ് ന്യൂസ് പേപ്പറുകൾ കലാപകാരികളുടെ മഹത്വം പ്രഘോഷിച്ചു.
- (D) ബ്രിട്ടീഷുകാരും ഇന്ത്യാക്കാരും സംഭവനകൾ ചെയ്ത ചിത്രങ്ങൾ വളരെ വിലപ്പെട്ട രേഖകളായി.
- (E) ബ്രിട്ടീഷ് പത്രങ്ങളും മാസികകളും ജനങ്ങളുടെ വികാരം ഉൾക്കൊള്ളുന്നതിനോ ബ്രിട്ടീഷ് പ്രകോപനത്തെയും പ്രതികരണത്തെയും തുറന്നു കാട്ടിയില്ല.

ശരിയായ ഉത്തരം തിരഞ്ഞെടുക്കുക.

- (1) (A), (B), (C) എന്നിവ മാത്രം
- (2) (B), (C), (D) എന്നിവ മാത്രം
- (3) (A), (E), (D) എന്നിവ മാത്രം
- (4) (A), (B), (D) എന്നിവ മാത്രം

Options :

212807119273 1

212807119274 1

212807119275 3

212807119276 4

Question Number : 224 Question Id : 21280719519 Question Type : MCQ Option Shuffling : No Is Question Mandatory : No Calculator : None Response Time : N.A Think Time : N.A Minimum Instruction Time : 0

Correct Marks : 5 Wrong Marks : 1

Question Key Details :

Key	Value
Comprehension	MCQ

1857 നവംബർ 19-ാം തീയതിയിൽ കോൽക്കട്ടിയിലെ നഗരം കോൽക്കട്ടിയിലെ പട്ടണമായി.

- (A) കോൽക്കട്ടിയിലെ നഗരം കോൽക്കട്ടിയിലെ പട്ടണമായി.
- (B) കോൽക്കട്ടിയിലെ നഗരം കോൽക്കട്ടിയിലെ പട്ടണമായി.
- (C) കോൽക്കട്ടിയിലെ നഗരം കോൽക്കട്ടിയിലെ പട്ടണമായി.
- (D) കോൽക്കട്ടിയിലെ നഗരം കോൽക്കട്ടിയിലെ പട്ടണമായി.
- (E) കോൽക്കട്ടിയിലെ നഗരം കോൽക്കട്ടിയിലെ പട്ടണമായി.

കോൽക്കട്ടിയിലെ നഗരം കോൽക്കട്ടിയിലെ പട്ടണമായി.

- (1) കോൽക്കട്ടിയിലെ നഗരം കോൽക്കട്ടിയിലെ പട്ടണമായി.
- (2) കോൽക്കട്ടിയിലെ നഗരം കോൽക്കട്ടിയിലെ പട്ടണമായി.
- (3) കോൽക്കട്ടിയിലെ നഗരം കോൽക്കട്ടിയിലെ പട്ടണമായി.
- (4) കോൽക്കട്ടിയിലെ നഗരം കോൽക്കട്ടിയിലെ പട്ടണമായി.

Options :

212807119273 1

212807119274 1

212507119273-3  
212507119274-4

Question Number : 214 Question Id : 21250719519 Question Type : MCQ Option Shuffling : No Is Question Mandatory : No Calculator : None  
Response Time : N.A Think Time : N.A Minimum Instruction Time : 0

Correct Marks : 5 Wrong Marks : 1

Question Key Details :

Key	Value
Comprehension	MCQ

1837 ਦੇ ਵਿਦਰੋਹ ਦੇ ਸਬੰਧ ਵਿਚ ਸਹੀ ਕਥਨ ਦੀ ਚੋਣ ਕਰੋ :

- (A) ਇਨ੍ਹਾਂ ਦੇ ਵਿਚਾਰ ਅਨੁਸਾਰ ਵਿਦਰੋਹੀਆਂ ਨੇ ਕੋਈ ਵੀ ਰਿਕਾਰਡ ਨਹੀਂ ਛੱਡਿਆ ਸੀ।
- (B) ਚਿੱਠੀਆਂ, ਡਾਇਰੀਆਂ, ਜੀਵਨੀਆਂ ਅਤੇ ਦਫ਼ਤਰੀ ਇਤਿਹਾਸਕ ਦਸਤਾਵੇਜ਼ਾਂ ਨਾਲ ਬ੍ਰਿਟਿਸ਼ ਅਧਿਕਾਰੀਆਂ ਦਾ ਖਜਾਨਾ ਭਰਿਆ ਪਿਆ ਸੀ।
- (C) ਬ੍ਰਿਟਿਸ਼ ਅਖਬਾਰਾਂ ਅਤੇ ਰਸਾਲਿਆਂ ਨੇ ਵਿਦਰੋਹੀਆਂ ਦੁਆਰਾ ਕੀਤੇ ਲਹੂ-ਲੁਹਾਣ ਨੂੰ ਅਖਬਾਰਾਂ ਵਿਚ ਵਿਆਖਿਆ ਸਹਿਤ ਪੇਸ਼ ਕੀਤਾ।
- (D) ਬ੍ਰਿਟਿਸ਼ ਅਤੇ ਭਾਰਤੀ ਅਦਾਰਿਆਂ ਦੁਆਰਾ ਬਗ਼ਾਵਤ ਦਾ ਰਿਕਾਰਡ ਚਿਤਰਾਂ ਸਮੇਤ ਪੇਸ਼ ਕੀਤਾ ਗਿਆ।
- (E) ਬ੍ਰਿਟਿਸ਼ ਅਖਬਾਰਾਂ ਅਤੇ ਰਸਾਲਿਆਂ ਨੇ ਲੋਕਾਂ ਦੀਆਂ ਭਵਨਾਵਾਂ ਨੂੰ ਨਹੀਂ ਸਮਝਿਆ ਅਤੇ ਬਦਲਾ ਲੈਣ ਦੀ ਮੰਗ ਨੂੰ ਉਕਸਾਇਆ।

ਹੇਠ ਲਿਖਿਆਂ ਵਿਕਲਪਾਂ ਵਿੱਚ ਸਹੀ ਉੱਤਰ ਦੀ ਚੋਣ ਕਰੋ :

- (1) ਸਿਰਫ਼ (A), (B), (C)
- (2) ਸਿਰਫ਼ (B), (C), (D)
- (3) ਸਿਰਫ਼ (A), (E), (D)
- (4) ਸਿਰਫ਼ (A), (B), (D)

Options :

212507119273-1  
212507119274-2  
212507119275-3  
212507119276-4

Question Number : 214 Question Id : 21250719519 Question Type : MCQ Option Shuffling : No Is Question Mandatory : No Calculator : None  
Response Time : N.A Think Time : N.A Minimum Instruction Time : 0

Correct Marks : 5 Wrong Marks : 1

Question Key Details :

Key	Value
Comprehension	MCQ



1857 -ஆம் ஆண்டு நிகழ்ந்த கிளர்ச்சி குறித்த சரியான சுற்றைத் தேர்ந்தெடுக்கவும் :

- (A) கிளர்ச்சியாளர்கள் தங்கள் கண்ணோட்டத்திலான எந்த ஆவணத்தையும் விட்டு வைக்கவில்லை.
- (B) கடிதங்கள், நாட்குறிப்புகள், சுயசரிதைகள் மற்றும் அதிகாரப்பூர்வ வரலாறுகள் வடிவில் பிரிட்டிஷ் அரசு ஆவணங்கள் ஏராளம்.
- (C) கலகக்காரர்களின் வன்முறைகளை பிரிட்டிஷ் நாளேடுகளும் பத்திரிகைகளும் கொடுமையாக படம் பிடித்து காட்டுகின்றன.
- (D) இந்த கலகம் குறித்த பிரிட்டிஷார் மற்றும் இந்தியர்கள் வெளியிட்ட புனைப்பட காட்சிகள் முக்கிய ஆவணமாகும்.
- (E) பிரிட்டிஷ் நாளேடுகள் மற்றும் பத்திரிகைகளின் கதைகள் மக்கள் உணர்வுகளை அதிகரிக்கவில்லை; தண்டனை வழங்கப்பட வேண்டும்; பழி தீர்க்கப்பட வேண்டுமென்ற கோரிக்கைகளை தூண்டியது.

கீழ்க்கண்ட விருப்பத் தெரிவுகளில் இருந்து சரியான விடையை தேர்ந்தெடுக்கவும் :

- (1) (A), (B), (C) மட்டும்
- (2) (B), (C), (D) மட்டும்
- (3) (A), (E), (D) மட்டும்
- (4) (A), (B), (D) மட்டும்

Options :

- 112807119273 1
- 112807119274 2
- 112807119275 3
- 112807119276 4

Question Number : 224 Question Id : 11280719819 Question Type : MCQ Option Shuffling : No Is Question Mandatory : No Calculator : None Response Time : N.A Think Time : N.A Minimum Instruction Time : 0

Correct Marks : 5 Wrong Marks : 1

Question Key Details :

Key	Value
Comprehension	MCQ

1857 తిరుగుబాటు గురించి సరైన ప్రకటనలు గుర్తించండి :

- (A) తిరుగుబాటుదారులు వారి ఆలోచనల పై ఏ ప్రతులు వదల లేదు.
- (B) బ్రిటిష్ అధికారిక వివరాలు ఉత్తరాలు, డైరీలు, అత్యుత్తమ మరయు అధికారిక చరిత్రల రూపంలో విరివిగా ఉన్నాయి.
- (C) బ్రిటిష్ వార్తాపత్రికలు మరియు సంపుటిలు ఆందోళనకారుల హింసను భయంకరంగా వివరించారు.
- (D) బ్రిటిష్ మరియు భారతీయులచే తీయబడిన దాయాచిత్రాలు తిరుగుబాటుకి ఒక ముఖ్యమైన ప్రతినె ఏర్పరచారు.
- (E) బ్రిటిష్ వార్తాపత్రికలు మరియు సంపుటిల కథలు మనోభావాలను కాల్యలేదు మరియు పగా ప్రతీకారాలను కోరకను రెకెర్తించింది.

కేంద ఇవ్వబడిన ఏకల్పాలలో సరైన సమాధానం ఎన్నుకోండి :

- (1) (A), (B), (C) మాత్రమే
- (2) (B), (C), (D) మాత్రమే
- (3) (A), (E), (D) మాత్రమే
- (4) (A), (B), (D) మాత్రమే

Options :

212807119273 1

212807119274 2

212807119275 3

212807119276 4

Question Number : 224 Question Id : 21280719519 Question Type : MCQ Option Shuffling : No Is Question Mandatory : No Calculator : None Response Time : N.A Think Time : N.A Minimum Instruction Time : 0

Correct Marks : 5 Wrong Marks : 1

Question Key Details :

Key	Value
Comprehension	MCQ

1857ء کے خدر کے متعلق درست بیانات کا انتخاب کریں۔

- (A) ہانپوں نے کوئی بھی ریکارڈ نہیں چھوڑا اپنے نظریے کا۔  
(B) برطانوی سرکاری تاریخ خطوط، ڈائریز اور فونڈسٹ کی شکل میں پائی جاتی ہے۔  
(C) برطانوی اخبارات اور رسائل ہانپوں کے خدر سے خون آلود ہیں۔  
(D) ہندوستانیوں اور برطانویوں کی تصویریں ایچ بیغاوت دستاویز کو ہم بناتی ہیں۔  
(E) برطانوی اخبار اور رسائل کی سنوریز عوام کے جذبات اور مآقلمیں پوری شہوتے پر انتقام کو یز صاوا نہیں دیتی تھیں۔  
دیئے گئے انتخابات میں درست جواب کا انتخاب کریں۔

(1) (A), (B), (C) صرف

(2) (B), (C), (D) صرف

(3) (A), (E), (D) صرف

(4) (A), (B), (D) صرف

Options :

- 112807119273 1  
112807119274 2  
112807119275 3  
112807119276 4

Question Number : 225 Question Id : 21280729820 Question Type : MCQ Option Shuffling : No Is Question Mandatory : No Calculator : None  
Response Time : N.A Think Time : N.A Minimum Instruction Time : 0

Correct Marks : 5 Wrong Marks : 1

Question Key Details :

Key	Value
Comprehension	MCQ

Which one of the following was NOT an important centre of the Revolt of 1857 ?

- (1) Lucknow  
(2) Kanpur  
(3) Delhi  
(4) Patiala

Options :

- 112807119277 1  
112807119278 2  
112807119279 3  
112807119280 4

Question Number : 225 Question Id : 21280729820 Question Type : MCQ Option Shuffling : No Is Question Mandatory : No Calculator : None  
Response Time : N.A Think Time : N.A Minimum Instruction Time : 0

Correct Marks : 5 Wrong Marks : 1

Question Key Details :

Key	Value
Comprehension	MCQ

निम्न में से कौन-सा 1857 के विद्रोह का एक महत्वपूर्ण केंद्र नहीं था?

- (1) लखनऊ
- (2) कानपुर
- (3) दिल्ली
- (4) पाटियाला

Options :

- 212807119277 1  
212807119278 2  
212807119279 3  
212807119280 4

Question Number : 225 Question Id : 21280719820 Question Type : MCQ Option Shuffling : No Is Question Mandatory : No Calculator : None  
Response Time : N.A Think Time : N.A Minimum Instruction Time : 0

Correct Marks : 5 Wrong Marks : 1

Question Key Details :

Key	Value
Comprehension	MCQ

তলত উল্লেখিত 1857 ৰ বিদ্ৰোহৰ কোনটো মহত্বপূৰ্ণ কেন্দ্ৰ নাছিল ?

- (1) লক্ষ্ণৌ
- (2) কানপুৰ
- (3) দিল্লী
- (4) পাতিয়ালা

Options :

- 212807119277 1  
212807119278 2  
212807119279 3  
212807119280 4

Question Number : 225 Question Id : 21280719820 Question Type : MCQ Option Shuffling : No Is Question Mandatory : No Calculator : None  
Response Time : N.A Think Time : N.A Minimum Instruction Time : 0

Correct Marks : 5 Wrong Marks : 1

Question Key Details :

Key	Value
Comprehension	MCQ

নিচে উল্লেখিত কোনটি 1857-ৰ বিদ্ৰোহৰ গুৰুত্বপূৰ্ণ কেন্দ্ৰ ছিল না ?

- (1) লক্ষ্ণৌ
- (2) কানপুৰ
- (3) দিল্লী
- (4) পাতিয়ালা

Options :

- 212807119277 1  
212807119278 2  
212807119279 3  
212807119280 4

Question Number : 225 Question Id : 21280719820 Question Type : MCQ Option Shuffling : No Is Question Mandatory : No Calculator : None  
Response Time : N.A Think Time : N.A Minimum Instruction Time : 0

Correct Marks : 5 Wrong Marks : 1

Question Key Details :

Key	Value
Comprehension	MCQ

नीचेनामांकी क्यु 1857-ना अणवानु महत्वनु केन्द्र न हतु ?

- (1) लखनौ
- (2) कानपुर
- (3) दिल्ली
- (4) पतियाळा

Options :

- 212807119277-1  
212807119278-2  
212807119279-3  
212807119280-4

Question Number : 225 Question Id : 21280719820 Question Type : MCQ Option Shuffling : No Is Question Mandatory : No Calculator : None  
Response Time : N.A Think Time : N.A Minimum Instruction Time : 0

Correct Marks : 5 Wrong Marks : 1

Question Key Details :

Key	Value
Comprehension	MCQ

ಕೆಳಗಿನವುಗಳಲ್ಲಿ ಯಾವುದು 1857 ರ ವಂಗಿಯ ಮುಖ್ಯ ಕೇಂದ್ರವಲ್ಲ ?

- (1) ಲಕ್ನೊ
- (2) ಕಾನ್ಪುರ
- (3) ದೆಹಲಿ
- (4) ಪಾಟಿಯಾಲ್

Options :

- 212807119277-1  
212807119278-2  
212807119279-3  
212807119280-4

Question Number : 225 Question Id : 21280719820 Question Type : MCQ Option Shuffling : No Is Question Mandatory : No Calculator : None  
Response Time : N.A Think Time : N.A Minimum Instruction Time : 0

Correct Marks : 5 Wrong Marks : 1

Question Key Details :

Key	Value
Comprehension	MCQ

खालोलपैकी कोणते 1857 च्या उठावाचे महत्वाचे केंद्र नव्हते ?

- (1) लखनौ
- (2) कानपुर
- (3) दिल्ली
- (4) पतियाळा

Options :

- 212807119277-1  
212807119278-2  
212807119279-3  
212807119280-4

Question Number : 225 Question Id : 21280719820 Question Type : MCQ Option Shuffling : No Is Question Mandatory : No Calculator : None  
Response Time : N.A Think Time : N.A Minimum Instruction Time : 0

Correct Marks : 5 Wrong Marks : 1

Question Key Details :

Key	Value
Comprehension	MCQ

1857 ເປັນ ຄວາມປະສານງານຂອງ ນະຄອນຫຼວງ ສາມາດ ຈຳນວນ ຈຳນວນ ຈຳນວນ ຈຳນວນ :

- (1) ຂັ້ນຕອນ
- (2) ຄວາມປະສານງານ
- (3) ຄວາມປະສານງານ
- (4) ຄວາມປະສານງານ

Options :

- 212807119277 1  
212807119278 2  
212807119279 3  
212807119280 4

Question Number : 225 Question Id : 21280729820 Question Type : MCQ Option Shuffling : No Is Question Mandatory : No Calculator : None

Response Time : N.A Think Time : N.A Minimum Instruction Time : 0

Correct Marks : 5 Wrong Marks : 1

Question Key Details :

Key	Value
Comprehension	MCQ

ເລື່ອງ 1857 ຈຳນວນ ຈຳນວນ ຈຳນວນ ຈຳນວນ ?

- (1) ຂັ້ນຕອນ
- (2) ຄວາມປະສານງານ
- (3) ຄວາມປະສານງານ
- (4) ຄວາມປະສານງານ

Options :

- 212807119277 1  
212807119278 2  
212807119279 3  
212807119280 4

Question Number : 225 Question Id : 21280729820 Question Type : MCQ Option Shuffling : No Is Question Mandatory : No Calculator : None

Response Time : N.A Think Time : N.A Minimum Instruction Time : 0

Correct Marks : 5 Wrong Marks : 1

Question Key Details :

Key	Value
Comprehension	MCQ

ນິມນສິਖ ຈຳນວນ ຈຳນວນ ຈຳນວນ ຈຳນວນ ຈຳນວນ ?

- (1) ຂັ້ນຕອນ
- (2) ຄວາມປະສານງານ
- (3) ຄວາມປະສານງານ
- (4) ຄວາມປະສານງານ

Options :

- 212807119277 1  
212807119278 2  
212807119279 3  
212807119280 4

Question Number : 225 Question Id : 21280719620 Question Type : MCQ Option Shuffling : No Is Question Mandatory : No Calculator : None  
Response Time : N.A Think Time : N.A Minimum Instruction Time : 0

Correct Marks : 5 Wrong Marks : 1

Question Key Details :

Key	Value
Comprehension	MCQ

1857-ఆధుం ఆఢుంఢు న్రికృత్య కిణగరశియిణ్ గ్రుకశియ ణయయరగ గత్య డ్రిగ్రుకణియణల ?

- (1) లకణణ
- (2) కణణఢుగ
- (3) త్రియణి
- (4) ఢుడయరణ

Options :

212807119277 1

212807119278 2

212807119279 3

212807119280 4

Question Number : 225 Question Id : 21280719620 Question Type : MCQ Option Shuffling : No Is Question Mandatory : No Calculator : None  
Response Time : N.A Think Time : N.A Minimum Instruction Time : 0

Correct Marks : 5 Wrong Marks : 1

Question Key Details :

Key	Value
Comprehension	MCQ

1857 తిరుగుణుతి ముఖ్యకేంద్రం కణిడి ఢిడి ?

- (1) లకణణ
- (2) కణణఢుగ
- (3) ఢిడి
- (4) ఢుడియణ

Options :

212807119277 1

212807119278 2

212807119279 3

212807119280 4

Question Number : 225 Question Id : 21280719620 Question Type : MCQ Option Shuffling : No Is Question Mandatory : No Calculator : None  
Response Time : N.A Think Time : N.A Minimum Instruction Time : 0

Correct Marks : 5 Wrong Marks : 1

Question Key Details :

Key	Value
Comprehension	MCQ

مندوبہ ذیل میں کون سا سال 1857ء کے غور کا اہم مرکز نہیں تھا۔

(1) ککٹو

(2) ککٹور

(3) دی

(4) یڈیال

Options :

212807119277 1

212807119278 2

212807119279 3

212807119280 4

Question Number : 114 Question Id : 21280729811 Question Type : MCQ Option Shuffling : No Is Question Mandatory : No Calculator : None  
Response Time : N.A Think Time : N.A Minimum Instruction Time : 0

Correct Marks : 5 Wrong Marks : 1

Question Key Details :

Key	Value
Comprehension	MCQ

Match List - I with List - II :-

**List - I**

**Imageries of Revolt of 1857**

- (A) Execution of Mutineers in Peshawar
- (B) Relief of Lucknow
- (C) The British Lion's Vengeance on the Bengal Tiger
- (D) "In Memoriam"

**List - II**

**Painters And Publishers**

- (I) Joseph Noel Paton
- (II) Punch
- (III) Thomas Jones Barker
- (IV) Illustrated London News

Choose the correct answer from the options given below :

- (1) (A)-(II), (B)-(I), (C)-(III), (D)-(IV)
- (2) (A)-(II), (B)-(III), (C)-(IV), (D)-(I)
- (3) (A)-(IV), (B)-(III), (C)-(II), (D)-(I)
- (4) (A)-(IV), (B)-(III), (C)-(I), (D)-(II)

Options :

212807119281 1

212807119282 2

212807119283 3

212807119284 4

Question Number : 116 Question Id : 21280729811 Question Type : MCQ Option Shuffling : No Is Question Mandatory : No Calculator : None  
Response Time : N.A Think Time : N.A Minimum Instruction Time : 0

Correct Marks : 5 Wrong Marks : 1

Question Key Details :

Key	Value
Comprehension	MCQ



सूची-I से सूची-II का मिलान कीजिए:

सूची-I

1857 के विद्रोह की छवियाँ

- (A) एम्जीक्यूशन ऑफ म्यूटिनियर्स एट पेसावर
- (B) द रिलीफ ऑफ लखनऊ
- (C) बंगाल टाइगर से ब्रिटिश शेर का प्रतिशोध
- (D) "इन मेमोरियम"

सूची-II

चित्रकार एवं प्रकाशक

- (I) जोसेफ नोएल पेटन
- (II) पन्थ
- (III) टॉमस जोन्स बार्कर
- (IV) इलस्ट्रेटेड लन्दन न्यूज़

नीचे दिए गए विकल्पों में से सही उत्तर का चयन कीजिए :

- (1) (A)-(II), (B)-(I), (C)-(III), (D)-(IV)
- (2) (A)-(II), (B)-(III), (C)-(IV), (D)-(I)
- (3) (A)-(IV), (B)-(III), (C)-(II), (D)-(I)
- (4) (A)-(IV), (B)-(III), (C)-(I), (D)-(II)

Options :

- 212807119281 1
- 212807119282 2
- 212807119283 3
- 212807119284 4

Question Number : 226 Question Id : 21280719821 Question Type : MCQ Option Shuffling : No Is Question Mandatory : No Calculator : None  
Response Time : N.A Think Time : N.A Minimum Instruction Time : 0

Correct Marks : 5 Wrong Marks : 1

Question Key Details :

Key	Value
Comprehension	MCQ

তালিকা - I ৰ সৈতে তালিকা - II মিলোৱা :

তালিকা - I

1857 ৰ বিদ্ৰোহৰ চিত্ৰকল্প

- (A) পেছোআবত বিদ্ৰোহীসকলক কাঁচি দিয়া
- (B) লক্ষৌক সকাহ দিয়া
- (C) বেংগল টাইগাৰৰ ওপৰত ব্ৰিটিছ লাইয়নাৰ প্ৰতিশোধ
- (D) "লা মেমোৱিয়াম"

তালিকা - II

চিত্ৰশিল্পী আৰু প্ৰকাশক

- (I) জ'চেফ নিয়ল পেটোন
- (II) পান্থ
- (III) থ'মাচ জনচ্ বাকৰি
- (IV) ইলুষ্ট্ৰেটেড লণ্ডন নিউজ

তলত দিয়া বিকল্পসমূহৰপৰা শুদ্ধ উত্তৰটো বাছি উলিওৱা :

- (1) (A)-(II), (B)-(I), (C)-(III), (D)-(IV)
- (2) (A)-(II), (B)-(III), (C)-(IV), (D)-(I)
- (3) (A)-(IV), (B)-(III), (C)-(II), (D)-(I)
- (4) (A)-(IV), (B)-(III), (C)-(I), (D)-(II)

Options :

- 212807119281 1
- 212807119282 2
- 212807119283 3
- 212807119284 4

Question Number : 226 Question Id : 21280719821 Question Type : MCQ Option Shuffling : No Is Question Mandatory : No Calculator : None  
Response Time : N.A Think Time : N.A Minimum Instruction Time : 0

Correct Marks : 5 Wrong Marks : 1

Question Key Details :

Key	Value
Comprehension	MCQ

তালিকা I এর সাথে তালিকা II মেলাও :

তালিকা I

1857 র বিদ্রোহের চিত্রকল্প

- (A) পেশোয়ারে বিদ্রোহীদের প্রাণদণ্ড  
(B) ব্রিসিফ অফ লাক্ণৌ  
(C) বাংলার বাঘের উপর ব্রিটিশ সিংহের প্রতিশোধ  
(D) "লা মোমোরিয়াম"

তালিকা II

চিত্রশিল্পী ও প্রকাশক

- (I) জোসেফ নোভেল পাটন  
(II) পান্ড  
(III) টমাস জোনস বার্কর  
(IV) ইল্যাস্ট্রেটেড লন্ডন নিউজ

নিচের বিকল্পগুলি থেকে সঠিক উত্তরটি বেছে কর :

- (1) (A)-(II), (B)-(I), (C)-(III), (D)-(IV)  
(2) (A)-(II), (B)-(III), (C)-(IV), (D)-(I)  
(3) (A)-(IV), (B)-(III), (C)-(II), (D)-(I)  
(4) (A)-(IV), (B)-(III), (C)-(I), (D)-(II)

Options :

- 212807119281 1  
212807119282 2  
212807119283 3  
212807119284 4

Question Number : 116 Question Id : 212807119211 Question Type : MCQ Option Shuffling : No Is Question Mandatory : No Calculator : None  
Response Time : N.A Think Time : N.A Minimum Instruction Time : 0

Correct Marks : 5 Wrong Marks : 1

Question Key Details :

Key	Value
Comprehension	MCQ

সূচী-I সাথে সূচী-II মে জোড়ো.

সূচী-I

1857 না অণবানী চণ্ডীচণ্ড

- (A) অেক্সপুসান অ়ে ম্যুট্রিনরীস অ়ে পেরাঘর  
(B) রীলীক্ অ়ে লখনৌ  
(C) ঘ ব্রীটীস লায়নস বেংগেংস অ়োন ঘ অ়েগাল রাষ্ট্রঘর  
(D) "এন মেমোরিয়াম"

সূচী-II

বিবকারে অ়নে প্রকাশক

- (I) লেসেই নোংগেণ পটোন  
(II) পুং  
(III) থোমস লোংস অ়ার্কর  
(IV) ইলিষ্ট্রেটেড লন্ডন ন্যুজ

নীখে আপেলা বিকল্পোমাংখী সাখো উত্তর পসংদ করে :

- (1) (A)-(II), (B)-(I), (C)-(III), (D)-(IV)  
(2) (A)-(II), (B)-(III), (C)-(IV), (D)-(I)  
(3) (A)-(IV), (B)-(III), (C)-(II), (D)-(I)  
(4) (A)-(IV), (B)-(III), (C)-(I), (D)-(II)

Options :

- 212807119281 1  
212807119282 2  
212807119283 3

Question Number : 226 Question Id : 21280729821 Question Type : MCQ Option Shuffling : No Is Question Mandatory : No Calculator : None  
Response Time : N.A Think Time : N.A Minimum Instruction Time : 0

Correct Marks : 5 Wrong Marks : 1

Question Key Details :

Key	Value
Comprehension	MCQ

ಪಟ್ಟಿ - I ಮತ್ತು ಪಟ್ಟಿ - II ನ್ನು ಹೊಂದಿಸಿ.

ಪಟ್ಟಿ - I

1857 ರ ದಂಗೆಯ ಚಿತ್ರಣ

- (A) ದಂಗೆಕೋರರನ್ನು ಪೇಶಾವರದಲ್ಲಿ ಶಿಕ್ಷೆಗೆ ಗುರಿ ಮಾಡಿದ್ದು  
(B) ಅಕ್ಟೋಬರ್ ಜನವರಿ  
(C) ದೆಹಲಿ ಮತ್ತು ಮರಾಠಾ ಮೇಲಿನ ಪ್ರಭಾವ ಸಂಹಾರದ ಪ್ರತಿಭಟನೆ  
(D) ಸ್ವಾತಂತ್ರ್ಯ

ಕೆಳಗೆ ನೀಡಿರುವ ಆಯ್ಕೆಗಳಿಂದ ಸರಿಯಾದ ಉತ್ತರವನ್ನು ಆರಿಸಿ.

- (1) (A)-(II), (B)-(I), (C)-(III), (D)-(IV)  
(2) (A)-(II), (B)-(III), (C)-(IV), (D)-(I)  
(3) (A)-(IV), (B)-(III), (C)-(II), (D)-(I)  
(4) (A)-(IV), (B)-(III), (C)-(I), (D)-(II)

Options :

212807119281\_1

212807119282\_2

212807119283\_3

212807119284\_4

Question Number : 226 Question Id : 21280729821 Question Type : MCQ Option Shuffling : No Is Question Mandatory : No Calculator : None  
Response Time : N.A Think Time : N.A Minimum Instruction Time : 0

Correct Marks : 5 Wrong Marks : 1

Question Key Details :

Key	Value
Comprehension	MCQ

ಸೂಚಿ - I ಮತ್ತು ಸೂಚಿ - II ನ್ನು ಸರಿಯಾದ ಜೋಡಣೆ ಮಾಡಿ :-

ಸೂಚಿ - I

1857 ರ ಚಿತ್ರಣಕ್ಕೆ ಸಂಬಂಧಿಸಿದ ಚಿತ್ರಣ

- (A) ಉತ್ತರಾಖಂಡದ ಪೇಶಾವರ ಶಿಕ್ಷೆ ಮೃತ್ಯುಂಡ  
(B) ಲಖನೌದ್ದಿ ಸುತ್ತಿನ  
(C) ಬ್ರಿಟಿಷ್ ಸಿಂಹಾಸನದ ಬೆಂಗಾಲಿ ವಾಚನದ ವಿಷಯ  
(D) "ಐನ್ ಮೆಮೋರಿಯಮ್ (ಸ್ಮೃತಿಯು)"

ಕೆಳಗೆ ನೀಡಿರುವ ಆಯ್ಕೆಗಳಿಂದ ಸರಿಯಾದ ಜೋಡಣೆ ಮಾಡಿ :-

- (1) (A)-(II), (B)-(I), (C)-(III), (D)-(IV)  
(2) (A)-(II), (B)-(III), (C)-(IV), (D)-(I)  
(3) (A)-(IV), (B)-(III), (C)-(II), (D)-(I)  
(4) (A)-(IV), (B)-(III), (C)-(I), (D)-(II)

ಸೂಚಿ - II

ಚಿತ್ರಣದ ವಿಷಯ ಮತ್ತು ಪ್ರಕಾಶಕರು

- (I) ಜೋಸೆಫ್ ನೋಲ್ ಪೆಂಟನ್  
(II) ಪಂಚ (Punch)  
(III) ಥಾಮಸ್ ಜಾನ್ಸ್ ಬಾರ್ಕರ್  
(IV) ಇಲಸ್ಟ್ರೇಟೆಡ್ ಲಂಡನ್ ನ್ಯೂಜ್

Options :

212807119281 1

212807119282 2

212807119283 3

212807119284 4

Question Number : 224 Question Id : 21280729811 Question Type : MCQ Option Shuffling : No Is Question Mandatory : No Calculator : None

Response Time : N.A Think Time : N.A Minimum Instruction Time : 0

Correct Marks : 5 Wrong Marks : 1

Question Key Details :

Key	Value
Comprehension	MCQ

ലിസ്റ്റ് - I ലിസ്റ്റ് - II മായി ചേരുമ്പടി ചേർക്കുക.

ലിസ്റ്റ് - I

1857 ലെ വിപ്ലവത്തിന്റെ ഓർമ്മചിത്രങ്ങൾ

- (A) എക്സിക്യൂട്ടീവ് ഓഫ് മ്യൂട്ടിനിയേഴ്സ് ഇൻ പെഷവർ
- (B) റിമീഫ് ഓഫ് ലക്നൗ
- (C) ടി ബ്രിട്ടീഷ് ലയൺസ് ഡെൻജൻസ് ഓൺ ടി ബംഗാൾ ടൈഗർ
- (D) ലാ മെമ്മോറിയം

ലിസ്റ്റ് - II

വരച്ചുവരും പ്രസാധകരും

- (I) ജോസഫ് നോയൽ പതോൺ
- (II) പുഞ്ച്
- (III) തോമസ് ജോൺ ബാർക്കെർ
- (IV) ഇല്ലസ്ട്രേറ്റഡ് ലണ്ടൻ ന്യൂസ്

താഴെ തന്നതിൽ നിന്ന് ശരിയായത് എടുക്കുക.

- (1) (A)-(II), (B)-(I), (C)-(III), (D)-(IV)
- (2) (A)-(II), (B)-(III), (C)-(IV), (D)-(I)
- (3) (A)-(IV), (B)-(III), (C)-(II), (D)-(I)
- (4) (A)-(IV), (B)-(III), (C)-(I), (D)-(II)

Options :

212807119281 1

212807119282 2

212807119283 3

212807119284 4

Question Number : 226 Question Id : 21280729811 Question Type : MCQ Option Shuffling : No Is Question Mandatory : No Calculator : None

Response Time : N.A Think Time : N.A Minimum Instruction Time : 0

Correct Marks : 5 Wrong Marks : 1

Question Key Details :

Key	Value
Comprehension	MCQ

ਭਾਗੀਕਾ-I ਅਤੇ ਭਾਗੀਕਾ-II ਨੂੰ ਜੋੜੋ।

ਭਾਗੀਕਾ-I

1857 ਦੇ ਵਿਦਰੋਹ ਦਾ ਨਾਂ

- (A) ਪੇਸ਼ਾਵਰ ਵਿਚ ਬਾਗੀਆਂ ਨੂੰ ਫਾਂਸੀ ਦੀ ਸਜ਼ਾ
- (B) ਲਖਨਊ ਦੀ ਰਾਹਤ
- (C) ਬੰਗਾਲ ਚੀਤਿਆਂ ਨਾਲ ਅੰਗਰੇਜ਼ੀ ਸ਼ੇਰਾਂ ਦਾ ਵੈਰ
- (D) "ਇਨ ਮੈਮੋਰੀਅਮ"

ਭਾਗੀਕਾ-II

ਚਿਤਰਕਾਰ ਅਤੇ ਪ੍ਰਕਾਸ਼ਕ

- (I) ਜੈਸਫ ਨੈਇਲ ਪੈਟਨ
- (II) ਪੰਚ
- (III) ਥਾਮਸ ਜੋਨਸ ਬਰਕਰ
- (IV) ਵਿਸਕ੍ਰਿਤ ਲੰਡਨ ਖਬਰ

ਹੇਠ ਲਿਖਿਆਂ ਵਿਕਲਪਾਂ ਵਿੱਚ ਸਹੀ ਉੱਤਰ ਦੀ ਚੋਣ ਕਰੋ :

- (1) (A)-(II), (B)-(I), (C)-(III), (D)-(IV)
- (2) (A)-(II), (B)-(III), (C)-(IV), (D)-(I)
- (3) (A)-(IV), (B)-(III), (C)-(II), (D)-(I)
- (4) (A)-(IV), (B)-(III), (C)-(I), (D)-(III)

Options :

- 212807119281 1
- 212807119282 2
- 212807119283 3
- 212807119284 4

Question Number : 226 Question Id : 21280719821 Question Type : MCQ Option Shuffling : No Is Question Mandatory : No Calculator : None  
Response Time : N.A Think Time : N.A Minimum Instruction Time : 0

Correct Marks : 5 Wrong Marks : 1

Question Key Details :

Key	Value
Comprehension	MCQ

ਸੂਚੀ-I ਦਾ ਸੂਚੀ-II ਨਾਲ ਮਿਲਾਣ ਕਰੋ।

ਸੂਚੀ-I

1857 ਦੇ ਵਿਦਰੋਹ ਦੇ ਨਾਂ

- (A) ਪੇਸ਼ਾਵਰ ਵਿਚ ਬਾਗੀਆਂ ਨੂੰ ਫਾਂਸੀ ਦੀ ਸਜ਼ਾ
- (B) ਲਖਨਊ ਦੀ ਰਾਹਤ
- (C) ਬੰਗਾਲ ਚੀਤਿਆਂ ਨਾਲ ਅੰਗਰੇਜ਼ੀ ਸ਼ੇਰਾਂ ਦਾ ਵੈਰ
- (D) "ਇਨ ਮੈਮੋਰੀਅਮ"

ਸੂਚੀ-II

ਚਿਤਰਕਾਰ ਅਤੇ ਪ੍ਰਕਾਸ਼ਕ

- (I) ਜੈਸਫ ਨੈਇਲ ਪੈਟਨ
- (II) ਪੰਚ
- (III) ਥਾਮਸ ਜੋਨਸ ਬਰਕਰ
- (IV) ਵਿਸਕ੍ਰਿਤ ਲੰਡਨ ਖਬਰ

ਹੇਠ ਲਿਖਿਆਂ ਵਿਕਲਪਾਂ ਵਿੱਚ ਸਹੀ ਉੱਤਰ ਦੀ ਚੋਣ ਕਰੋ :

- (1) (A)-(II), (B)-(I), (C)-(III), (D)-(IV)
- (2) (A)-(II), (B)-(III), (C)-(IV), (D)-(I)
- (3) (A)-(IV), (B)-(III), (C)-(II), (D)-(I)
- (4) (A)-(IV), (B)-(III), (C)-(I), (D)-(III)

Options :

- 212807119281 1
- 212807119282 2
- 212807119283 3
- 212807119284 4

Question Number : 225 Question Id : 21280719281 Question Type : MCQ Option Shuffling : No Is Question Mandatory : No Calculator : None  
Response Time : N.A Think Time : N.A Minimum Instruction Time : 0

Correct Marks : 5 Wrong Marks : 1

Question Key Details :

Key	Value
Comprehension	MCQ

பட்டியல் I -ஐ பட்டியல் II உடன் பொருத்துக.

பட்டியல் I

(1857 கிளர்ச்சியின்  
காட்சிப்படுத்தல்)

- (A) கிளர்ச்சியாளர்களுக்கு  
பெஷாவரில் மரண  
தண்டனை நிறைவேற்றம்
- (B) ஸக்னோலிற்கு நிவாரணம்
- (C) வங்க புலி மீதான  
பிரிட்டிஷ் சிங்கத்தில் பழி  
உணர்ச்சி

பட்டியல் II

(ஓவியர்கள் மற்றும்  
பிரகரித்தோர்)

- (I) ஜோசப் நோயல் பட்டோன்
- (II) பஞ்ச்
- (III) தாமஸ் ஜோன்ஸ் பர்கர்

(D) நினைவில் நின்றவை

(IV) இல்லஸ்ட்ரேட்டட் லண்டன் செய்திகள்

கீழ்க்காணும் விருப்பத் தொகுிகளில் இருந்து சரியான விடையைத் தேர்ந்தெடுக்கவும் :

- (1) (A)-(II), (B)-(I), (C)-(III), (D)-(IV)
- (2) (A)-(II), (B)-(III), (C)-(IV), (D)-(I)
- (3) (A)-(IV), (B)-(III), (C)-(II), (D)-(I)
- (4) (A)-(IV), (B)-(III), (C)-(I), (D)-(II)

Options :

21280719281 1

21280719282 2

21280719283 3

21280719284 4

Question Number : 226 Question Id : 21280719281 Question Type : MCQ Option Shuffling : No Is Question Mandatory : No Calculator : None  
Response Time : N.A Think Time : N.A Minimum Instruction Time : 0

Correct Marks : 5 Wrong Marks : 1

Question Key Details :

Key	Value
Comprehension	MCQ

లస్ట్ - I ని లస్ట్ - II తో జతపరచండి :

లస్ట్ - I

(1857 తిరుగుబాటు ప్రతిబింబాలు)

- (A) పెళావార్లో ఇంద్రోళసకారుల ఉద్ర
- (B) లక్ష్నో విమోచనము
- (C) బెంగాల్ పులి పై బ్రిటిష్ సేంపాం ప్రతికారం (ప్రత్యుపకారము)
- (D) "లా మెమోరియం"

లస్ట్ - II

(చిత్రకారులు మరియు సంపాదకులు)

- (I) జోసెఫ్ నియోల్ పటాన్
- (II) పంచ్
- (III) థామస్ జోస్ఫ్ బార్నర్
- (IV) లండన్ వార్తల వివరణ

కింద ఇవ్వబడిన వికల్పాలలో సరైన సమాధానం ఎన్నుకోండి :

- (1) (A)-(II), (B)-(I), (C)-(III), (D)-(IV)
- (2) (A)-(II), (B)-(III), (C)-(IV), (D)-(I)
- (3) (A)-(IV), (B)-(III), (C)-(II), (D)-(I)
- (4) (A)-(IV), (B)-(III), (C)-(I), (D)-(II)

Options :

212807119281\_1

212807119282\_2

212807119283\_3

212807119284\_4

Question Number : 226 Question Id : 21280719621 Question Type : MCQ Option Shuffling : No Is Question Mandatory : No Calculator : None

Response Time : N.A Think Time : N.A Minimum Instruction Time : 0

Correct Marks : 5 Wrong Marks : 1

Question Key Details :

Key	Value
Comprehension	SSQ

فہرست I کو فہرست II سے ملائیں۔

فہرست II	فہرست I
نقاش اور علی گڑھ	1857ء کے ندر کی تصویریں
جوزف نیول بیٹون (I)	(A) پشاور میں باغیوں کا پھانسی
Panch شیخ (II)	(B) ریڈیف آف لکنؤ
تھامس جانس بارکر (III)	(C) دی بریٹش لائسنس ریجنل ماگیزٹریٹ کا انتظام
الزبتھ لندن نیوز (IV)	(D) ان میمورین (Lawmemoriam)

دیئے گئے انتخابات میں سے درست جواب کا انتخاب کریں۔

- (A)-(II), (B)-(I), (C)-(III), (D)-(IV) (1)  
(A)-(II), (B)-(III), (C)-(IV), (D)-(I) (2)  
(A)-(IV), (B)-(III), (C)-(II), (D)-(I) (3)  
(A)-(IV), (B)-(III), (C)-(I), (D)-(II) (4)

Options :

- 212807119281 1  
212807119282 2  
212807119283 3  
212807119284 4

Question Number : 117 Question Id : 21180719822 Question Type : MCQ Option Shuffling : No Is Question Mandatory : No Calculator : None  
Response Time : N.A Think Time : N.A Minimum Instruction Time : 0

Correct Marks : 5 Wrong Marks : 1

Question Key Details :

Key	Value
Comprehension	MCQ

Arrange in a chronological order :

- (A) Mutiny starts in Meerut.  
(B) Subsidiary Alliance introduced by Wellesley.  
(C) Rani Jhansi killed in battle.  
(D) Nawab of Awadh, Wajid Ali Shah deposed.  
(E) Shah Mal killed in battle.

Choose the correct answer from the options given below :

- (1) (A), (B), (C), (D), (E)  
(2) (B), (C), (D), (A), (E)  
(3) (B), (D), (A), (E), (C)  
(4) (C), (B), (D), (A), (E)

Options :

- 212807119285 1  
212807119286 2  
212807119287 3  
212807119288 4



Question Number : 227 Question Id : 21280719282 Question Type : MCQ Option Shuffling : No Is Question Mandatory : No Calculator : None  
Response Time : N.A Think Time : N.A Minimum Instruction Time : 0

Correct Marks : 5 Wrong Marks : 1

Question Key Details :

Key	Value
Comprehension	MCQ

उचित कालक्रम में व्यवस्थित कीजिए :

- मेरठ में विद्रोह का आरम्भ।
- बेलेजली द्वारा सहायक संधि का प्रस्ताव।
- रानी झांसी का युद्ध में मृत्यु।
- अवध के नवाब वाजिद अली शाह को गद्दी से हटाया।
- शाह मल का युद्ध में मृत्यु।

नीचे दिए गए विकल्पों में से सही उत्तर का चयन कीजिए :

- (A), (B), (C), (D), (E)
- (B), (C), (D), (A), (E)
- (B), (D), (A), (E), (C)
- (C), (B), (D), (A), (E)

Options :

21280719285 1

21280719286 2

21280719287 3

21280719288 4

Question Number : 227 Question Id : 21280719822 Question Type : MCQ Option Shuffling : No Is Question Mandatory : No Calculator : None  
Response Time : N.A Think Time : N.A Minimum Instruction Time : 0

Correct Marks : 5 Wrong Marks : 1

Question Key Details :

Key	Value
Comprehension	MCQ

कालानुक्रमिकतः सज्जया :

- मीवाँत बिलोह आरम्भ।
- बेलेजली द्वारा सहायकी मित्रता प्रवर्तन करा गया।
- युद्धत आर्याँव कर्णीव मृत्यु हर।
- अवधव नवव राज्जिद आलि शाहक पदच्युत करा हर।
- युद्धत शाह मलव मृत्यु हर।

तकत दिया विकल्पसमूहकपवा शुद्ध उँडवटो बरि उँलिडवा :

- (A), (B), (C), (D), (E)
- (B), (C), (D), (A), (E)
- (B), (D), (A), (E), (C)
- (C), (B), (D), (A), (E)

Options :

21280719285 1

21280719286 2

21280719287 3

21280719288 4

Question Number : 227 Question Id : 212807192822 Question Type : MCQ Option Shuffling : No Is Question Mandatory : No Calculator : None  
Response Time : N.A Think Time : N.A Minimum Instruction Time : 0

Correct Marks : 5 Wrong Marks : 1

Question Key Details :

Key	Value
Comprehension	MCQ

કાલાનુક્રમિકતાવે સાજાં ડ :

- (A) વિદ્રોહ મીરાટે શુરુ હય।
- (B) અશ્વીનતામુલક મિત્રતા ડયેલેસલિ કર્તુક પ્રવર્તિત હય।
- (C) કાંસીર રાની યુદ્ધે નિહત હન।
- (D) અયોધ્યાર નવાબ ડયાર્જેન આલિ સિંહેસનક્રુત હન।
- (E) શાહ મલ યુદ્ધે નિહત હન।

નિચે પ્રદત્ત વિકલ્પગુણિ છેકે સઠિક ડંતરતિ વેહ્ને નાં ડ :

- (1) (A), (B), (C), (D), (E)
- (2) (B), (C), (D), (A), (E)
- (3) (B), (D), (A), (E), (C)
- (4) (C), (B), (D), (A), (E)

Options :

212807192822\_1

212807192822\_2

212807192822\_3

212807192822\_4

Question Number : 227 Question Id : 212807192822 Question Type : MCQ Option Shuffling : No Is Question Mandatory : No Calculator : None  
Response Time : N.A Think Time : N.A Minimum Instruction Time : 0

Correct Marks : 5 Wrong Marks : 1

Question Key Details :

Key	Value
Comprehension	MCQ

કોનોસિપ્તકલ કસમાં ગોઠવો :

- (A) મેઠ મા બળવાની સરૂઆત.
- (B) વેલેન્સી દ્વારા સહાયકારી વોલ/નાની સરૂઆત.
- (C) ડાંસીની સારૂી લડાઈમાં માર્યા ગયા.
- (D) અબધના નવાબ બાણ્ડ અલી શાહ પદબ્ધ.
- (E) શાહ મલ લડાઈમાં માર્યા ગયા.

નીચે આપેલા વિકલ્પોમાંથી સાચો ઉત્તર સોધો :

- (1) (A), (B), (C), (D), (E)
- (2) (B), (C), (D), (A), (E)
- (3) (B), (D), (A), (E), (C)
- (4) (C), (B), (D), (A), (E)

Options :

212807192822\_1

212807192822\_2

212807192822\_3

212507119283-4

Question Number : 217 Question Id : 21280719822 Question Type : MCQ Option Shuffling : No Is Question Mandatory : No Calculator : None  
Response Time : N.A Think Time : N.A Minimum Instruction Time : 0

Correct Marks : 5 Wrong Marks : 1

Question Key Details :

Key	Value
Comprehension	MCQ

ಒಂದು ಕಾಲಾನುಕ್ರಮದಲ್ಲಿ ಹೋಡಿಸು :

- (A) ದಂಗೆಯು ಮೀರತೆನ್ನಲ್ಲಿ ಅರಂಭವಾಯಿತು
- (B) ಸಹಾಯಕ ಮೈತ್ರಿಕೋಟವು ವೆಲೆಸ್ಲಿಯವರಿಂದ ಪರಿಚಯಿಸಲ್ಪಟ್ಟಿತು.
- (C) ಹೋರಾಟದಲ್ಲಿ ಡಾಕಿಟುರೂನಿಯ ಮಡಿದಿತು
- (D) ಅವಧನ ನವಾಬ ವಾಜಿದ ಅಲಿಷಾ ಸಾಕ್ಷಿಸುಡಿದ
- (E) ಜಾಮಲ್ ಹೋರಾಟದಲ್ಲಿ ಮಡಿದ

ಕೆಳಗೆ ನೀಡಿರುವ ಆಯ್ಕೆಗಳಿಂದ ಸರಿಯಾದ ಉತ್ತರವನ್ನು ಆರಿಸಿ.

- (1) (A), (B), (C), (D), (E)
- (2) (B), (C), (D), (A), (E)
- (3) (B), (D), (A), (E), (C)
- (4) (C), (B), (D), (A), (E)

Options :

212507119283-1

212507119284-1

212507119287-3

212507119288-4

Question Number : 227 Question Id : 21280719822 Question Type : MCQ Option Shuffling : No Is Question Mandatory : No Calculator : None  
Response Time : N.A Think Time : N.A Minimum Instruction Time : 0

Correct Marks : 5 Wrong Marks : 1

Question Key Details :

Key	Value
Comprehension	MCQ

ಕಾಲಾನುಕ್ರಮ ಯೋಗ್ಯ ಕ್ರಮಾನು ಮಾರ್ಗಾ :

- (A) ಮೊರತು ಸೇರಿ ಡಾಟಾವಾಚಾ ಡ್ರೆಕು ಡಾಲಾ.
- (B) ವೆಲಸ್ಲಿಯಾ ನಾನೆ ತೆನಾತೆ ಫೆಜೆಂಚಾ ತಹ ಪಡತೆಂಚಿ ಸುರ್ವಾತು ಕೆಲಿ.
- (C) ಡಾಟಾಂಚಿ ಸಾಣಿ ಲಡಾಡೆಂತು ಮಾರಲಿ ಗೆಲಿ.
- (D) ಅವಧನ ನವಾಬ ಡಾಟಾಂಚಿ ಅಲಿ ಶಹಾ ಯಾಂನಾ ಪದಚ್ಯುತು ಕರಣ್ಯಾತು ಅಲಿ.
- (E) ಲಡಾಡೆಂಚಿ ಶಹಾ ಮಾಲ ಮಾರಲಿ ಗೆಲಿ.

ಖಾಲಿ ದಿಲೆಲ್ಯಾ ಪರ್ಯಾಯಾಂಚಿಂನು ಯೋಗ್ಯ ಪರ್ಯಾಯ ನಿವಡಾ :

- (1) (A), (B), (C), (D), (E)
- (2) (B), (C), (D), (A), (E)
- (3) (B), (D), (A), (E), (C)
- (4) (C), (B), (D), (A), (E)

Options :

212807119283-1

212507119284-1

212807119287-3

Question Number : 217 Question Id : 21280719822 Question Type : MCQ Option Shuffling : No Is Question Mandatory : No Calculator : None  
Response Time : N.A Think Time : N.A Minimum Instruction Time : 0

Correct Marks : 5 Wrong Marks : 1

Question Key Details :

Key	Value
Comprehension	MCQ

കാലഗണന അനുസരിച്ച് ക്രമീകരിക്കുക.

- (A) മീററ്റിൽ കലാപം ആരംഭിക്കുന്നു.
- (B) വെല്ലുണ്ണി സബ്സിഡറി അലയൻസ് തുടങ്ങി.
- (C) റാണി ലക്ഷ്മിബായ് കൊല്ലപ്പെട്ടു.
- (D) അവയ് നവാബ് വാജിദ് അലി ഷാ നാടുകടന്നുപോയി.
- (E) ഷാ മൗൽ യുദ്ധത്തിൽ കൊല്ലപ്പെട്ടു.

താഴെ തന്നിരിക്കുന്നവയിൽ നിന്നും ശരിയായത് തിരഞ്ഞെടുക്കുക.

- (1) (A), (B), (C), (D), (E)
- (2) (B), (C), (D), (A), (E)
- (3) (B), (D), (A), (E), (C)
- (4) (C), (B), (D), (A), (E)

Options :

212807119288\_1

212807119288\_2

212807119288\_3

212807119288\_4

Question Number : 227 Question Id : 21280719822 Question Type : MCQ Option Shuffling : No Is Question Mandatory : No Calculator : None  
Response Time : N.A Think Time : N.A Minimum Instruction Time : 0

Correct Marks : 5 Wrong Marks : 1

Question Key Details :

Key	Value
Comprehension	MCQ

വനമുദ്രണ രചന :

- (A) നിരന്തരം വിശ്വേച്ഛ അർത്ഥം ।
- (B) ഭൂമിയിൽ വൃദ്ധി വരുത്തുവാൻ അർത്ഥം ।
- (C) മൃഗങ്ങൾ വളർത്തുവാൻ അർത്ഥം ।
- (D) ജന്തുക്കൾ നശിപ്പിക്കുവാൻ അർത്ഥം ।
- (E) വനം നശിപ്പിക്കുവാൻ അർത്ഥം ।

കിഴക്കൻ രാജ്യങ്ങളിൽ വനമുദ്രണ നിയമം നടപ്പാക്കാൻ അർത്ഥം ।

- (1) (A), (B), (C), (D), (E)
- (2) (B), (C), (D), (A), (E)
- (3) (B), (D), (A), (E), (C)
- (4) (C), (B), (D), (A), (E)

Options :

212807119288\_1

212807119288\_2

212807119288\_3

Question Number : 217 Question Id : 21280719822 Question Type : MCQ Option Shuffling : No Is Question Mandatory : No Calculator : None  
Response Time : N.A Think Time : N.A Minimum Instruction Time : 0

Correct Marks : 5 Wrong Marks : 1

Question Key Details :

Key	Value
Comprehension	MCQ

ਕਾਲ-ਕ੍ਰਮ ਅਨੁਸਾਰ ਕਰੋ :

- ਮੋਰਠ ਵਿਚ ਬਗਾਵਤ ਦੀ ਸ਼ੁਰੂਆਤ ।
- ਵੈਲਜ਼ਲੇ ਦੁਆਰਾ ਕਿਆਇਤ ਗਠਜੋੜ ।
- ਰਾਣੀ ਝਾਂਸੀ ਲੜਾਈ ਵਿਚ ਮਾਰੀ ਗਈ ।
- ਅਵਧ ਦੇ ਠਵਾਬ ਵਾਜਿਦ ਅਲੀ ਨੂੰ ਕੱਚੀ ਤੋਂ ਲਾਹੁਣਾ ।
- ਸਾਹ ਮੱਲ ਦਾ ਲੜਾਈ ਵਿਚ ਮਰਨਾ ।

ਹੇਠ ਲਿਖਿਆਂ ਵਿਕਲਪਾਂ ਵਿੱਚ ਸਹੀ ਉੱਤਰ ਦੀ ਚੋਣ ਕਰੋ :

- (A), (B), (C), (D), (E)
- (B), (C), (D), (A), (E)
- (B), (D), (A), (E), (C)
- (C), (B), (D), (A), (E)

Options :

212807119288\_1

212807119288\_2

212807119288\_3

212807119288\_4

Question Number : 227 Question Id : 21280719822 Question Type : MCQ Option Shuffling : No Is Question Mandatory : No Calculator : None  
Response Time : N.A Think Time : N.A Minimum Instruction Time : 0

Correct Marks : 5 Wrong Marks : 1

Question Key Details :

Key	Value
Comprehension	MCQ

ਕਾਲਵਰੀਕਸ਼ਪੱਧਰ ਅਠਮਕਕਵਮ :

- ਮੀਰਪੁਰ ਕਲਕਮ ਤੋਲਾਨਰੀਯਤੁ।
- ਕੋਲਕਲਲਲੀ ਤੋਲਾਨਰੀਯ ਤੁਕੋਲ ਕਲਕਲਲੀ।
- ਕੁਲਾਨਲੀ ਰਾਨੀ ਕੋਲਾਨੀ ਕੋਲਕਲਲਲਪੱਲਦਾਰ।
- ਅਕਲ ਨਕਲਪ ਕਲਕਲਲੀ ਅਲੀ ਕੁਲਾਨ ਕੁਲਕਲਲੀਕਲਕਲਲੀਕਲਕਲਲੀ ਅਕਲਕਲਲਲਪੱਲਦਾਰ।
- ਕੁਲਾਨ ਕਲਕਲਲੀ ਕੋਲਕਲਲਲਪੱਲਦਾਰ।

ਕੀਤੁਕਲਕਲਲੀ ਕਲਕਲਲੀ ਕਲਕਲਲੀ ਕੋਲਕਲਲੀ ਕੋਲਕਲਲੀ :

- (A), (B), (C), (D), (E)
- (B), (C), (D), (A), (E)
- (B), (D), (A), (E), (C)
- (C), (B), (D), (A), (E)

Options :

212807119288\_1

212807119288\_2

212807119288\_3

212807119288\_4

Question Number : 217 Question Id : 21280729822 Question Type : MCQ Option Shuffling : No Is Question Mandatory : No Calculator : None  
Response Time : N.A Think Time : N.A Minimum Instruction Time : 0  
Correct Marks : 5 Wrong Marks : 1

Question Key Details :

Key	Value
Comprehension	MCQ

కాలక్రమానుసారంగా అమర్చండి :

- (A) మీరట్లో తిరుగుబాటు మొదలైంది
- (B) వెల్లెస్లీ చే ప్రవేశపెట్టబడిన సహకార కూటమి
- (C) యుద్ధంలో రాణి రూన్మీ చనిపోయింది
- (D) వజీద్ అలిషా ని ఆవద్ నవాబు పదవి నుండి తొలగించారు
- (E) యుద్ధంలో షా మల్ చనిపోయాడు

కింద ఇవ్వబడిన వికల్పాలలో సరైన సమాధానం ఎన్నుకోండి :

- (1) (A), (B), (C), (D), (E)
- (2) (B), (C), (D), (A), (E)
- (3) (B), (D), (A), (E), (C)
- (4) (C), (B), (D), (A), (E)

Options :

- 212807119288\_3
- 212807119286\_3
- 212807119287\_3
- 212807119288\_4

Question Number : 217 Question Id : 21280729822 Question Type : MCQ Option Shuffling : No Is Question Mandatory : No Calculator : None  
Response Time : N.A Think Time : N.A Minimum Instruction Time : 0  
Correct Marks : 5 Wrong Marks : 1

Question Key Details :

Key	Value
Comprehension	MCQ

تاریخی اہمیت سے ترتیب دیں۔

- (A) میرٹھ میں بغاوت کی شروعات  
(B) سپیڈ بیری الائنس ویلز نے پیش کیا  
(C) رائی جھانسی کا قتل لڑائی میں  
(D) اودھ کے نواب واجد علی شاہ کی معزولی  
(E) شاہل کا لڑائی میں مارا جانا  
دیئے گئے انتخابات میں درست کا انتخاب کریں۔

- (A), (B), (C), (D), (E) (1)  
(B), (C), (D), (A), (E) (2)  
(B), (D), (A), (F), (C) (3)  
(C), (B), (D), (A), (E) (4)

Options :

- 212807119285 1  
212807119286 2  
212807119287 3  
212807119288 4

Question Number : 228 Question Id : 21280729823 Question Type : MCQ Option Shuffling : No Is Question Mandatory : No Calculator : None  
Response Time : N.A Think Time : N.A Minimum Instruction Time : 0

Correct Marks : 5 Wrong Marks : 1

Question Key Details :

Key	Value
Comprehension	MCQ

This Governor-General of British India described Awadh as "a cherry that will drop into our mouth one day".

- (1) Lord Mounbatten  
(2) Lord Wellesley  
(3) Lord Irwin  
(4) Lord Dalhousie

Options :

- 212807119289 1  
212807119290 2  
212807119291 3  
212807119292 4

Question Number : 228 Question Id : 21280729823 Question Type : MCQ Option Shuffling : No Is Question Mandatory : No Calculator : None  
Response Time : N.A Think Time : N.A Minimum Instruction Time : 0

Correct Marks : 5 Wrong Marks : 1

Question Key Details :

Key	Value
Comprehension	MCQ

भारत के इस गवर्नर जनरल ने अवध के संदर्भ में कहा था "यह गिलासफल (cherry) एक दिन हमारे ही मुँह में आकर गिरगा"।

- (1) लॉर्ड माउण्टबेटन
- (2) लॉर्ड चेलमेज़ली
- (3) लॉर्ड इरविन
- (4) लॉर्ड डलहौज़ी

Options :

- 212807119289 1
- 212807119290 2
- 212807119291 3
- 212807119292 4

Question Number : 228 Question Id : 21280729823 Question Type : MCQ Option Shuffling : No Is Question Mandatory : No Calculator : None  
Response Time : N.A Think Time : N.A Minimum Instruction Time : 0

Correct Marks : 5 Wrong Marks : 1

Question Key Details :

Key	Value
Comprehension	MCQ

ब्रिटिश ईश्वाराय गवर्नर जेनेरलले अरधव विषये केल्लिल — "एदिन एहि चेरौफल आमस मुखत पविबहि".

- (1) लॉर्ड माउण्टबेटन
- (2) लॉर्ड चेलमेज़ली
- (3) लॉर्ड इरविन
- (4) लॉर्ड डलहौज़ी

Options :

- 212807119289 1
- 212807119290 2
- 212807119291 3
- 212807119292 4

Question Number : 228 Question Id : 21280729823 Question Type : MCQ Option Shuffling : No Is Question Mandatory : No Calculator : None  
Response Time : N.A Think Time : N.A Minimum Instruction Time : 0

Correct Marks : 5 Wrong Marks : 1

Question Key Details :

Key	Value
Comprehension	MCQ

एहि ब्रिटिश गवर्नर जेनेरल अरधव्याके वर्णन करेखिलेन "एदिन एकदिन चेरौ, वा एकदिन आमस मुखत एसे पडवे".

- (1) लॉर्ड माउण्टबेटन
- (2) लॉर्ड चेलमेज़ली
- (3) लॉर्ड इरविन
- (4) लॉर्ड डलहौज़ी

Options :

- 212807119289 1
- 212807119290 2
- 212807119291 3
- 212807119292 4

Question Number : 228 Question Id : 21280729823 Question Type : MCQ Option Shuffling : No Is Question Mandatory : No Calculator : None  
Response Time : N.A Think Time : N.A Minimum Instruction Time : 0



Correct Marks : 5 Wrong Marks : 1

Question Key Details :

Key	Value
Comprehension	MCQ

ब्रिटिश भारताना जनरल अवेधने "एक बेरी ले एक दिवस आपणु मोमां आवी जशे".

- (1) लॉर्ड माउन्टबेटन
- (2) लॉर्ड वेलेस्ली
- (3) लॉर्ड ईन्वीन
- (4) लॉर्ड डलहौसी

Options :

- 212807119289 1  
212807119290 2  
212807119291 3  
212807119292 4

Question Number : 118 Question Id : 21280719823 Question Type : MCQ Option Shuffling : No Is Question Mandatory : No Calculator : None  
Response Time : N.A Think Time : N.A Minimum Instruction Time : 0

Correct Marks : 5 Wrong Marks : 1

Question Key Details :

Key	Value
Comprehension	MCQ

अवध अन्नु "लामु बँठु, अमु लामुदिस नमू बाळुगी बाळुकुद" अमु बाळुगीयु कु प्रुणुज गीरुद बनरुद :

- (1) एरुदु मीरुदुबाळुगुन
- (2) एरुदु वल्लुसुली
- (3) एरुदु आरुवुन
- (4) एरुदु डलहौसी

Options :

- 212807119289 1  
212807119290 2  
212807119291 3  
212807119292 4

Question Number : 228 Question Id : 21280719823 Question Type : MCQ Option Shuffling : No Is Question Mandatory : No Calculator : None  
Response Time : N.A Think Time : N.A Minimum Instruction Time : 0

Correct Marks : 5 Wrong Marks : 1

Question Key Details :

Key	Value
Comprehension	MCQ

या ब्रिटिश भारताने गव्हर्नर जनरल यांनी अवधेचे वर्णन करताना "एक ना एक दिवस आमच्या तोंडात पडेल अशी चेरी" असे केले आहे.

- (1) लॉर्ड माउन्ट बँटन
- (2) लॉर्ड वेलेस्ली
- (3) लॉर्ड आरुवुन
- (4) लॉर्ड डलहौसी

Options :

- 212807119289 1  
212807119290 2  
212807119291 3

212507119292-4

Question Number : 228 Question Id : 21280729823 Question Type : MCQ Option Shuffling : No Is Question Mandatory : No Calculator : None  
Response Time : N.A Think Time : N.A Minimum Instruction Time : 0

Correct Marks : 5 Wrong Marks : 1

Question Key Details :

Key	Value
Comprehension	MCQ

ഏത് ഗവർണ്ണർ ജനറലാണ് അവധ് എന്ന ചെറി ഒരു ദിവസം തങ്ങൾ വായിൽ എടുക്കും എന്നു പറഞ്ഞത് ?

- (1) മൗണ്ട് ബാറ്റൺ പ്രഭു
- (2) വെല്ലെസ്ലി പ്രഭു
- (3) ഇൻവിൻ പ്രഭു
- (4) ഡൽഹൗസി പ്രഭു

Options :

- 212507119289-1
- 212507119290-2
- 212507119291-3
- 212507119292-4

Question Number : 228 Question Id : 21280729823 Question Type : MCQ Option Shuffling : No Is Question Mandatory : No Calculator : None  
Response Time : N.A Think Time : N.A Minimum Instruction Time : 0

Correct Marks : 5 Wrong Marks : 1

Question Key Details :

Key	Value
Comprehension	MCQ

നേർ ഉദിത ഭാരതീയ അദ്ധ്യക്ഷൻ്റെ “ഭരണ മാനദണ്ഡം” എന്തായിരുന്നു ?

- (1) നെഹറുവിൻ്റെ
- (2) നെഹറുവിൻ്റെ
- (3) നെഹറുവിൻ്റെ
- (4) നെഹറുവിൻ്റെ

Options :

- 212507119289-1
- 212507119290-2
- 212507119291-3
- 212507119292-4

Question Number : 228 Question Id : 21280729823 Question Type : MCQ Option Shuffling : No Is Question Mandatory : No Calculator : None  
Response Time : N.A Think Time : N.A Minimum Instruction Time : 0

Correct Marks : 5 Wrong Marks : 1

Question Key Details :

Key	Value
Comprehension	MCQ

ਬ੍ਰਿਟਿਸ਼ ਭਾਰਤ ਦੇ ਕਿਸ ਗਵਰਨਰ ਜਨਰਲ ਨੇ ਅਫਧ ਦੇ ਬਾਰੇ ਵਿਚ ਕਿਹਾ ਸੀ "ਉਹ ਇਕ ਚੇਰੀ ਹੈ, ਜਿਹੜੀ ਇਕ ਦਿਨ ਸਾਡੇ ਮੂੰਹ ਆ ਜਾਵੇਗੀ" ?

- (1) ਲਾਰਡ ਮਾਰੀਟਬੈਂਟਨ
- (2) ਲਾਰਡ ਵੈਲਜ਼ਲੇ
- (3) ਲਾਰਡ ਇਰਵਿਨ
- (4) ਲਾਰਡ ਡਲਹੌਜ਼ੀ

Options :

- 212807119289 1
- 212807119290 2
- 212807119291 3
- 212807119292 4

Question Number : 228 Question Id : 21280729823 Question Type : MCQ Option Shuffling : No Is Question Mandatory : No Calculator : None  
Response Time : N.A Think Time : N.A Minimum Instruction Time : 0

Correct Marks : 5 Wrong Marks : 1

Question Key Details :

Key	Value
Comprehension	MCQ

'ਅਵਤ੍ਰਿ ਓਰੁ ਨਾਨ੍ ਸੋਗ੍ਰੀ ਪਠ੍ਰਮ੍ ਪੋਪਾਠ੍ ਨ੍ਰਮਠ੍ਰੁ ਵਾਧੀਠ੍ ਵਨ੍ਰਠ੍ਰੁ ਵੀਠ੍ਰੁਮ੍' ਂਂਠ੍ਰੁ ਪ੍ਰੀਠ੍ਰਿਠ੍ ਡ੍ਰਿਠ੍ਰੁ  
ਓਨ੍ਰੁਠ੍ਰਿਧਾਠ੍ਰਿਠ੍ ਂਠ੍ਰੁਠ੍ਰੁ ਕਵਾਨ੍ਠ੍ਰੁ ਡ੍ਰਿਠ੍ਰੁਠ੍ਰੁ ਕ੍ਰਿਠ੍ਰੁਠ੍ਰੁਠ੍ਰੁ ?

- (1) ਸਾਗ੍ਰਿਠ੍ ਮਠ੍ਰੁਠ੍ਰੁਠ੍ ਪੋਪ੍ਰਿਠ੍ਰੁਠ੍
- (2) ਸਾਗ੍ਰਿਠ੍ ਡ੍ਰਿਠ੍ਰੁਠ੍ਰੁਠ੍
- (3) ਸਾਗ੍ਰਿਠ੍ ਓਨ੍ਰੁਠ੍ਰੁਠ੍
- (4) ਸਾਗ੍ਰਿਠ੍ ਠ੍ਰੁਠ੍ਰੁਠ੍ਰੁਠ੍

Options :

- 212807119289 1
- 212807119290 2
- 212807119291 3
- 212807119292 4

Question Number : 228 Question Id : 21280729823 Question Type : MCQ Option Shuffling : No Is Question Mandatory : No Calculator : None  
Response Time : N.A Think Time : N.A Minimum Instruction Time : 0

Correct Marks : 5 Wrong Marks : 1

Question Key Details :

Key	Value
Comprehension	MCQ

ਪ੍ਰਿਠ੍ਰਿਠ੍ ਖ਼ਾਠ੍ਰੁਠ੍ ਗਵਰ੍ਰੁਠ੍ਰੁ ਆਨ੍ਰੁਠ੍ਰੁ, ਆਨ੍ਰੁਠ੍ਰੁ ਸੁ "ਏਠ੍ਰੁ ਏਕ ਰੋਠ੍ਰੁ ਸੁਨ ਸੋਠ੍ਰਿਠ੍ਰੁ ਪਠ੍ਰਿਠ੍ਰੁ" ਆਨ੍ਰੁ ਵੀਠ੍ਰੁਠ੍ਰੁਠ੍ਰੁਠ੍ਰੁ.

- (1) ਲਾਰ੍ਰੁ ਮਾਰ੍ਰੁਠ੍ਰੁਠ੍ਰੁਠ੍ਰੁਠ੍
- (2) ਲਾਰ੍ਰੁ ਵੈਲ੍ਰੁਠ੍ਰੁਠ੍
- (3) ਲਾਰ੍ਰੁ ਇਰ੍ਰੁਠ੍ਰੁਠ੍
- (4) ਲਾਰ੍ਰੁ ਠ੍ਰੁਠ੍ਰੁਠ੍ਰੁਠ੍

Options :

- 212807119289 1
- 212807119290 2
- 212807119291 3
- 212807119292 4

Question Number : 228 Question Id : 212807192823 Question Type : MCQ Option Shuffling : No Is Question Mandatory : No Calculator : None  
Response Time : N.A Think Time : N.A Minimum Instruction Time : 0

Correct Marks : 5 Wrong Marks : 1

Question Key Details :

Key	Value
Comprehension	MCQ

برطانوی ہندوستان کے کس جنرل نے اودھ کے نئے کجا تھا کہ "ایک دن چری (Cherry) ہمارے منہ میں گرے گی"۔

(1) لارڈ مائونٹ بیٹن (Lord Mountbatten)

(2) لارڈ ویلسلی (Lord Wellesley)

(3) لارڈ ایروین (Lord Irwin)

(4) لارڈ ڈالھوزی (Lord Dalhousie)

Options :

212807192823 1

212807192823 2

212807192823 3

212807192823 4

Question Number : 229 Question Id : 212807192824 Question Type : MCQ Option Shuffling : No Is Question Mandatory : No Calculator : None  
Response Time : N.A Think Time : N.A Minimum Instruction Time : 0

Correct Marks : 5 Wrong Marks : 1

Question Key Details :

Key	Value
Comprehension	MCQ

Match List - I with List - II :-

List - I

List - II

- |                  |                 |
|------------------|-----------------|
| (A) Panaji       | (I) French      |
| (B) Masulipatnam | (II) Dutch      |
| (C) Pondicherry  | (III) British   |
| (D) Madras       | (IV) Portuguese |

Choose the correct answer from the options given below :

- (1) (A)-(II), (B)-(I), (C)-(III), (D)-(IV)
- (2) (A)-(IV), (B)-(I), (C)-(III), (D)-(II)
- (3) (A)-(III), (B)-(I), (C)-(II), (D)-(IV)
- (4) (A)-(IV), (B)-(II), (C)-(I), (D)-(III)

Options :

212807192824 1

212807192824 2

212807192824 3

212807192824 4

Question Number : 229 Question Id : 212807192824 Question Type : MCQ Option Shuffling : No Is Question Mandatory : No Calculator : None  
Response Time : N.A Think Time : N.A Minimum Instruction Time : 0

Correct Marks : 5 Wrong Marks : 1

Question Key Details :

Key	Value
Comprehension	MCQ

सूची-I से सूची-II का मिलान कीजिए:

सूची-I	सूची-II
(A) पणजी	(I) फ्रांसीसी
(B) मछलिपट्टनम	(II) डच
(C) पाण्डिचेरी	(III) अंग्रेज
(D) मद्रास	(IV) पुर्तगाली

नीचे दिए गए विकल्पों में से सही उत्तर का चयन कीजिए :

- (1) (A)-(II), (B)-(I), (C)-(III), (D)-(IV)
- (2) (A)-(IV), (B)-(I), (C)-(III), (D)-(II)
- (3) (A)-(III), (B)-(I), (C)-(II), (D)-(IV)
- (4) (A)-(IV), (B)-(II), (C)-(I), (D)-(III)

Options :

112807119293 1

112807119294 2

112807119295 3

112807119296 4

Question Number : 229 Question Id : 21280729824 Question Type : MCQ Option Shuffling : No Is Question Mandatory : No Calculator : None  
Response Time : N.A Think Time : N.A Minimum Instruction Time : 0

Correct Marks : 5 Wrong Marks : 1

Question Key Details :

Key	Value
Comprehension	h000

तालिका - I व तालिका - II मिलोवा :

तालिका - I	तालिका - II
(A) पानाजि	(I) डच
(B) मछलिपट्टनम	(II) अंग्रेज
(C) पाण्डिचेरी	(III) ब्रिटिश
(D) मद्रास	(IV) पुर्तगाली

तलत दिया विकल्पसमूहपवा शुद्ध डिक्रवते बाहि डिलिवा :

- (1) (A)-(II), (B)-(I), (C)-(III), (D)-(IV)
- (2) (A)-(IV), (B)-(I), (C)-(III), (D)-(II)
- (3) (A)-(III), (B)-(I), (C)-(II), (D)-(IV)
- (4) (A)-(IV), (B)-(II), (C)-(I), (D)-(III)

Options :

112807119293 1

112807119294 2

112807119295 3

112807119296 4

Question Number : 229 Question Id : 21280729824 Question Type : MCQ Option Shuffling : No Is Question Mandatory : No Calculator : None  
Response Time : N.A Think Time : N.A Minimum Instruction Time : 0

Correct Marks : 5 Wrong Marks : 1

Question Key Details :

Key	Value
-----	-------

তালিকা I এর সাথে তালিকা II মেলাও :

তালিকা I	তালিকা II
(A) পানাজি	(I) যাবাসী
(B) মসুলিপ্তনম	(II) ডাচ
(C) পণ্ডিচেরি	(III) ব্রিটিশ
(D) মাদ্রাস	(IV) পর্তুগীজ

নিচের বিকল্পগুলি থেকে সঠিক উত্তরটি বেছে কর :

- (1) (A)-(II), (B)-(I), (C)-(III), (D)-(IV)
- (2) (A)-(IV), (B)-(I), (C)-(III), (D)-(II)
- (3) (A)-(III), (B)-(I), (C)-(II), (D)-(IV)
- (4) (A)-(IV), (B)-(II), (C)-(I), (D)-(III)

Options :

- 212807119293 1  
212807119294 2  
212807119295 3  
212807119296 4

Question Number : 229 Question Id : 21280719824 Question Type : MCQ Option Shuffling : No Is Question Mandatory : No Calculator : None  
Response Time : N.A Think Time : N.A Minimum Instruction Time : 0

Correct Marks : 5 Wrong Marks : 1

Question Key Details :

Key	Value
Comprehension	MCQ

সূচী-I সাথে সূচী-II মে জোড়ি.

সূচী-I	সূচী-II
(A) পল্লভ	(I) ইন্দ
(B) মঙ্গলীপত্ৰনম	(II) ১৫
(C) পোঁড়ীখেরী	(III) ব্রিটিশ
(D) মদ্রাস	(IV) পর্তুগীজ

নীচে আপাতা বিকল্পোমাংখী সত্যো উত্তর শোধো :

- (1) (A)-(II), (B)-(I), (C)-(III), (D)-(IV)
- (2) (A)-(IV), (B)-(I), (C)-(III), (D)-(II)
- (3) (A)-(III), (B)-(I), (C)-(II), (D)-(IV)
- (4) (A)-(IV), (B)-(II), (C)-(I), (D)-(III)

Options :

- 212807119293 1  
212807119294 2  
212807119295 3  
212807119296 4

Question Number : 229 Question Id : 21280719824 Question Type : MCQ Option Shuffling : No Is Question Mandatory : No Calculator : None  
Response Time : N.A Think Time : N.A Minimum Instruction Time : 0

Correct Marks : 5 Wrong Marks : 1

Question Key Details :

Key	Value
Comprehension	MCQ

ಪಟ್ಟಿ - I ಮತ್ತು ಪಟ್ಟಿ - II ನ್ನು ಹೊಂದಿಸಿ.

ಪಟ್ಟಿ - I	ಪಟ್ಟಿ - II
(A) ಫೂಜಿ	(I) ಫ್ರೆಂಚ್
(B) ಮಚ್ಚಲಿಪದ್ಧಿ	(II) ಡಚ್
(C) ಪಾಂಡಿಚೆರಿ	(III) ಬ್ರಿಟಿಷ್
(D) ಮದ್ರಾಸ್	(IV) ಪೋರ್ಚುಗೀಸ್

ಕೆಳಗೆ ನೀಡಿರುವ ಆಯ್ಕೆಗಳಿಂದ ಸರಿಯಾದ ಉತ್ತರವನ್ನು ಆರಿಸಿ.

- (1) (A)-(II), (B)-(I), (C)-(III), (D)-(IV)
- (2) (A)-(IV), (B)-(I), (C)-(III), (D)-(II)
- (3) (A)-(III), (B)-(I), (C)-(II), (D)-(IV)
- (4) (A)-(IV), (B)-(II), (C)-(I), (D)-(III)

Options :

- 212807119293 1  
212807119294 2  
212807119295 3  
212807119296 4

Question Number : 229 Question Id : 21280729824 Question Type : MCQ Option Shuffling : No Is Question Mandatory : No Calculator : None  
Response Time : N.A Think Time : N.A Minimum Instruction Time : 0  
Correct Marks : 5 Wrong Marks : 1

Question Key Details :

Key	Value
Comprehension	MCQ

ಸೂಚಿ - I ಮತ್ತು ಸೂಚಿ - II ಮಧ್ಯೆ ಯೋಗ್ಯ ಜೊಡೆಗಳನ್ನು ಜುಲುವಾ :-

ಸೂಚಿ - I	ಸೂಚಿ - II
(A) ಪಣಜಿ	(I) ಫ್ರೆಂಚ್
(B) ಮಚ್ಚಲಿಪದ್ಧಿ	(II) ಡಚ್
(C) ಪೌಡೋಚೆರಿ (ಪುದುಚ್ಚೆರಿ)	(III) ಬ್ರಿಟಿಷ್
(D) ಮದ್ರಾಸ್	(IV) ಪೋರ್ಚುಗೀಸ್

ಖಾಲಿ ದಿಲೆಲೆಲ್ಯಾ ಪರ್ಯಾಯಂಥುನ ಯೋಗ್ಯ ಪರ್ಯಾಯ ನಿವಹಾ :

- (1) (A)-(II), (B)-(I), (C)-(III), (D)-(IV)
- (2) (A)-(IV), (B)-(I), (C)-(III), (D)-(II)
- (3) (A)-(III), (B)-(I), (C)-(II), (D)-(IV)
- (4) (A)-(IV), (B)-(II), (C)-(I), (D)-(III)

Options :

- 212807119293 1  
212807119294 2  
212807119295 3  
212807119296 4

Question Number : 229 Question Id : 21280729824 Question Type : MCQ Option Shuffling : No Is Question Mandatory : No Calculator : None  
Response Time : N.A Think Time : N.A Minimum Instruction Time : 0  
Correct Marks : 5 Wrong Marks : 1

Question Key Details :

Key	Value
Comprehension	MCQ

ലിസ്റ്റ് I ലിസ്റ്റ് - II നായി ചേരുമ്പോൾ ചേർക്കുക.

- |                  |                  |
|------------------|------------------|
| ലിസ്റ്റ് - I     | ലിസ്റ്റ് - II    |
| (A) പാനാജി       | (I) ഗ്രമഞ്ച്     |
| (B) മുസിരിപട്ടണം | (II) ഡച്ച്       |
| (C) പോണ്ടിച്ചേരി | (III) ബ്രിട്ടീഷ് |
| (D) മദ്രാസ്      | (IV) പോർച്ചുഗീസ് |

തന്നിരിക്കുന്നവയിൽ നിന്നും ശരിയുത്തരം തിരഞ്ഞെടുക്കുക.

- (1) (A)-(II), (B)-(I), (C)-(III), (D)-(IV)
- (2) (A)-(IV), (B)-(I), (C)-(III), (D)-(II)
- (3) (A)-(III), (B)-(I), (C)-(II), (D)-(IV)
- (4) (A)-(IV), (B)-(II), (C)-(I), (D)-(III)

Options :  
 212807119293 1  
 212807119294 2  
 212807119295 3  
 212807119296 4

Question Number : 229 Question Id : 21280729824 Question Type : MCQ Option Shuffling : No Is Question Mandatory : No Calculator : None  
 Response Time : N.A Think Time : N.A Minimum Instruction Time : 0

Correct Marks : 5 Wrong Marks : 1  
 Question Key Details :

Key	Value
Comprehension	MCQ

താഴെ പറയുന്നവയിൽ തിരിച്ചറിയുക.

- |                  |                  |
|------------------|------------------|
| താഴെ പറയുന്നവയിൽ | താഴെ പറയുന്നവയിൽ |
| (A) വാണിജ്യ      | (I) സമൃദ്ധി      |
| (B) സമൃദ്ധി      | (II) കടം         |
| (C) സമൃദ്ധി      | (III) കൃഷി       |
| (D) സമൃദ്ധി      | (IV) സമൃദ്ധി     |

താഴെ പറയുന്നവയിൽ തിരിച്ചറിയുക.

- (1) (A)-(II), (B)-(I), (C)-(III), (D)-(IV)
- (2) (A)-(IV), (B)-(I), (C)-(III), (D)-(II)
- (3) (A)-(III), (B)-(I), (C)-(II), (D)-(IV)
- (4) (A)-(IV), (B)-(II), (C)-(I), (D)-(III)

Options :  
 212807119293 1  
 212807119294 2  
 212807119295 3  
 212807119296 4

Question Number : 229 Question Id : 21280729824 Question Type : MCQ Option Shuffling : No Is Question Mandatory : No Calculator : None  
 Response Time : N.A Think Time : N.A Minimum Instruction Time : 0

Correct Marks : 5 Wrong Marks : 1



## Question Key Details :

Key	Value
Comprehension	MCQ

ਸੁਚੀ-I ਦਾ ਸੁਚੀ-II ਨਾਲ ਮਿਲਾਣ ਕਰੋ ।

ਸੁਚੀ-I	ਸੁਚੀ-II
(A) ਪਣਜੀ	(I) ਫਰੈਂਚ
(B) ਮੈਸਲੀਪਟਨਮ	(II) ਡੱਚ
(C) ਪਾਂਡੀਚੇਰੀ	(III) ਬ੍ਰਿਟਿਸ਼
(D) ਮਦਰਾਸ	(IV) ਪੁਰਤਗੇਜੀ

ਹੇਠ ਲਿਖਿਆਂ ਵਿਕਲਪਾਂ ਵਿੱਚ ਸਹੀ ਉੱਤਰ ਦੀ ਚੋਣ ਕਰੋ :

- (1) (A)-(II), (B)-(I), (C)-(III), (D)-(IV)
- (2) (A)-(IV), (B)-(I), (C)-(III), (D)-(II)
- (3) (A)-(III), (B)-(I), (C)-(II), (D)-(IV)
- (4) (A)-(IV), (B)-(II), (C)-(I), (D)-(III)

Options :

212807119293 : 1

212807119294 : 2

212807119295 : 3

212807119296 : 4

Question Number : 229 Question Id : 21280729824 Question Type : MCQ Option Shuffling : No Is Question Mandatory : No Calculator : None  
Response Time : N.A Think Time : N.A Minimum Instruction Time : 0

Correct Marks : 5 Wrong Marks : 1

Question Key Details :

Key	Value
Comprehension	MCQ

ਪੱਛਮੀ ਪੱਛਮੀ I - II ਦੇ ਖੇਤਰ ਵਿੱਚ ਪੈਰਾਗਰਾਫ਼

ਪੱਛਮੀ I	ਪੱਛਮੀ II
(A) ਪਾਣੀ	(I) ਸ਼ਿਪਿੰਗ ਕੰਪਨੀਆਂ
(B) ਮਹਾਨਗਰ ਪੱਛਮੀ	(II) ਲੋਕ ਕੰਪਨੀਆਂ
(C) ਪਾਣੀ ਸ਼ਿਪਿੰਗ	(III) ਪਿਛਮੀ
(D) ਸੇਵਾ	(IV) ਪੇਸ਼ਾਵਰ ਕੰਪਨੀਆਂ

ਸ਼ਿਪਿੰਗ ਕੰਪਨੀਆਂ ਵਿੱਚ ਸਹੀ ਵਿਕਲਪ ਦੀ ਚੋਣ ਕਰੋ :

- (1) (A)-(II), (B)-(I), (C)-(III), (D)-(IV)
- (2) (A)-(IV), (B)-(I), (C)-(III), (D)-(II)
- (3) (A)-(III), (B)-(I), (C)-(II), (D)-(IV)
- (4) (A)-(IV), (B)-(II), (C)-(I), (D)-(III)

Options :

212807119293 : 1

212807119294 : 2

212807119295 : 3

212807119296 : 4

Question Number : 229 Question Id : 21280729824 Question Type : MCQ Option Shuffling : No Is Question Mandatory : No Calculator : None  
Response Time : N.A Think Time : N.A Minimum Instruction Time : 0

Correct Marks : 5 Wrong Marks : 1

Question Key Details :

Key	Value
Comprehension	MCQ

లస్ట్ - I ను లస్ట్ - II తో జతపరచండి :

లస్ట్ - I

లస్ట్ - II

- |                 |                 |
|-----------------|-----------------|
| (A) పనాజీ       | (I) ఫ్రెంచ్     |
| (B) మసులిపట్నం  | (II) దచ్        |
| (C) పొండిచ్చేరి | (III) బ్రిటిష్  |
| (D) మద్రాస్     | (IV) పోర్చుగీసు |

కేంద్ర ఇవ్వబడిన వికల్పాలలో నచ్చిన సమాధానం ఎన్నుకోండి :

- (1) (A)-(II), (B)-(I), (C)-(III), (D)-(IV)
- (2) (A)-(IV), (B)-(I), (C)-(III), (D)-(II)
- (3) (A)-(III), (B)-(I), (C)-(II), (D)-(IV)
- (4) (A)-(IV), (B)-(II), (C)-(I), (D)-(III)

Options :

212807119293 1

212807119294 2

212807119295 3

212807119296 4

Question Number : 229 Question Id : 21280719624 Question Type : MCQ Option Shuffling : No Is Question Mandatory : No Calculator : None Response Time : N.A Think Time : N.A Minimum Instruction Time : 0

Correct Marks : 5 Wrong Marks : 1

Question Key Details :

Key	Value
Comprehension	MCQ

فہرست I کو فہرست II سے ملائیں۔

فہرست II

فہرست I

- |                           |                              |
|---------------------------|------------------------------|
| (I) فرنگی (فرانسیسی)      | (A) پاناجی (Panaji)          |
| (II) ڈچ (Dutch)           | (B) مسولپٹنام (Masulipatnam) |
| (III) برطانوی (British)   | (C) پونڈیچری (Pondicherry)   |
| (IV) پرتگالی (Portuguese) | (D) مدراس (Madras)           |

دیئے گئے انتخابات میں سے درست جواب کا انتخاب کریں۔

- (1) (A)-(II), (B)-(I), (C)-(III), (D)-(IV)
- (2) (A)-(IV), (B)-(I), (C)-(III), (D)-(II)
- (3) (A)-(III), (B)-(I), (C)-(II), (D)-(IV)
- (4) (A)-(IV), (B)-(II), (C)-(I), (D)-(III)

Options :

- 212807119293 1
- 212807119294 2
- 212807119295 3
- 212807119296 4

Question Number : 230 Question Id : 21280729825 Question Type : MCQ Option Shuffling : No Is Question Mandatory : No Calculator : None  
Response Time : N.A Think Time : N.A Minimum Instruction Time : 0

Correct Marks : 5 Wrong Marks : 1

Question Key Details :

Key	Value
Comprehension	MCQ

It was **NOT** the outcome of 'Gandhi-Irwin Pact' :

- (1) Civil disobedience would be called off.
- (2) Radical nationalists supported the pact.
- (3) All prisoners were released.
- (4) Salt manufacture allowed along the coast.

Options :

- 212807119297 1
- 212807119298 2
- 212807119299 3
- 212807119300 4

Question Number : 230 Question Id : 21280729825 Question Type : MCQ Option Shuffling : No Is Question Mandatory : No Calculator : None  
Response Time : N.A Think Time : N.A Minimum Instruction Time : 0

Correct Marks : 5 Wrong Marks : 1

Question Key Details :

Key	Value
Comprehension	MCQ

यह 'गाँधी-इरविन समझौता' का परिणाम नहीं था :

- (1) सविनय अवज्ञा आंदोलन वापस ले लिया गया।
- (2) रेडिकल राष्ट्रवादियों ने समझौते का समर्थन किया।
- (3) सभी कैदियों को रिहा कर दिया गया।
- (4) समुद्र तट के पास नमक निर्माण की अनुमति।

Options :

- 212807119297 1
- 212807119298 2
- 212807119299 3
- 212807119300 4

Question Number : 230 Question Id : 21280729825 Question Type : MCQ Option Shuffling : No Is Question Mandatory : No Calculator : None  
Response Time : N.A Think Time : N.A Minimum Instruction Time : 0

Correct Marks : 5 Wrong Marks : 1

Question Key Details :

Key	Value
Comprehension	MCQ

'শাফী-আবউইনৰ চুক্তি'ৰ ফল নাছিল \_\_\_\_\_।

- (1) নাগৰিক অবাধ্যতাৰ বাতিল কৰা হ'ব।
- (2) উগ্র জাতীয়বাদীয়ে চুক্তিখনক সমৰ্থন কৰে।
- (3) সকলো কয়েদীকে মুক্তি দিছিল।
- (4) নিমখ (নিৰ্মাণ) কৰাবলৈ উপকূলৰ কাষত অনুমতি দিয়া হৈছিল।

Options :

- 212807119297 1  
212807119298 2  
212807119299 3  
212807119300 4

Question Number : 230 Question Id : 21280729825 Question Type : MCQ Option Shuffling : No Is Question Mandatory : No Calculator : None  
Response Time : N.A Think Time : N.A Minimum Instruction Time : 0

Correct Marks : 5 Wrong Marks : 1

Question Key Details :

Key	Value
Comprehension	MCQ

এটি "গান্ধী-আরউইন চুক্তি"র সফল ফল ছিল না \_\_\_\_\_।

- (1) আইন অমান্য আন্দোলন স্থগিত রাখা হবে।  
(2) চরম জাতীয়তাবাদীরা চুক্তি সমর্থন করেন।  
(3) সকল কারাবন্দীরা মুক্তিলাভ করে।  
(4) অরণ উৎপাদকরা শুধুমাত্র উপকূলে অনুমতি পায়।

Options :

- 212807119297 1  
212807119298 2  
212807119299 3  
212807119300 4

Question Number : 230 Question Id : 21280729825 Question Type : MCQ Option Shuffling : No Is Question Mandatory : No Calculator : None  
Response Time : N.A Think Time : N.A Minimum Instruction Time : 0

Correct Marks : 5 Wrong Marks : 1

Question Key Details :

Key	Value
Comprehension	MCQ

\_\_\_\_\_ কে "গান্ধী-ইরবীন করস"নু পরিচয় দেওয়া হয়।

- (1) সখিনয় কানুনগো সর্বজনীন পঞ্চ করসে আবেদন করে।  
(2) উক্ত সর্বজনীন পঞ্চ করসে নু সমর্থন করত।  
(3) পঞ্চ করসে কেউওনে সোপ মূক্তকরসে আবেদন করে।  
(4) হরিযকরসে মীকানা উৎপাদকরসে মনুসুরী আবেদন করে।

Options :

- 212807119297 1  
212807119298 2  
212807119299 3  
212807119300 4

Question Number : 230 Question Id : 21280729825 Question Type : MCQ Option Shuffling : No Is Question Mandatory : No Calculator : None  
Response Time : N.A Think Time : N.A Minimum Instruction Time : 0

Correct Marks : 5 Wrong Marks : 1

Question Key Details :

Key	Value
Comprehension	MCQ

ಇಂದು "ಗಾಂಧಿ ವಿದ್ಯುತ್ ಒಪ್ಪಂದದಿಂದ" ಹೂಕ ಹೊಮ್ಮಿದ್ದಲ್ಲ :

- (1) ನಾಗರೀಕ ಕಾನೂನುಭಂಗವನ್ನು ಹಿಂತೆಗೆದುಕೊಳ್ಳುವುದು
- (2) ತೀವ್ರಗಾಢಿ ಅಶ್ವೀನುಪಾದಿಗಳು ಒಪ್ಪಂದವನ್ನು ಬಿಂಬಲಿಸಿದರು
- (3) ಎಲ್ಲಾ ಪೈದಿಗಳನ್ನು ಬಿಡುಗಡೆಗೊಳಲಾಯಿತು
- (4) ಉಪ್ಪು ತಯಾರಿಕೆಯನ್ನು ಸಮುದ್ರ ತೀರದಲ್ಲಿ ಮಾಡಲು ಬಿಟ್ಟರು

Options :

- 212807119297 1  
212807119298 2  
212807119299 3  
212807119300 4

Question Number : 330 Question Id : 21280719825 Question Type : MCQ Option Shuffling : No Is Question Mandatory : No Calculator : None

Response Time : N.A Think Time : N.A Minimum Instruction Time : 0

Correct Marks : 5 Wrong Marks : 1

Question Key Details :

Key	Value
Comprehension	MCQ

ಹಾ ಗಾಂಧಿ ಆರ್ಯವಿನ್ ಕರಾರಾಚಾ ಪರಿಣಾಮ ನವ್ಹತಾ -

- (1) ಸವಿನಯ ಕಾಯದೆಭೆಗಾಚೆ ಚಡವಲ ಸ್ಥಗಿತ ಕೆಲೆಲಿ ಗೆಲಿ.
- (2) ಮೂಲವಾದೆಲಿ ರಾಷ್ಟ್ರವಾದವಾನೆಲಿ ಕರಾರಾಲಾ ಪಾಟೆಚಾ ದಶವಿಲಾ.
- (3) ಸರ್ವ ಕೆದವಾನೆಲಿ ಮೂಕತಾ ಕೆಲೆಲಿ ಗೆಲಿ.
- (4) ಸಮುದ್ರಕಿಲಾರಿ ಸೆಲೆ ತಯಾರ ಕರಣ್ಯಾಚೆಲಿ ಪರವಾನಗಿ ದೆಣ್ಯಾತ ಆಲಿ.

Options :

- 212807119297 1  
212807119298 2  
212807119299 3  
212807119300 4

Question Number : 330 Question Id : 21280719825 Question Type : MCQ Option Shuffling : No Is Question Mandatory : No Calculator : None

Response Time : N.A Think Time : N.A Minimum Instruction Time : 0

Correct Marks : 5 Wrong Marks : 1

Question Key Details :

Key	Value
Comprehension	MCQ

\_\_\_\_\_ ಉನ್ಯಲಿ ಉಲೆವಿನ್ ಗುನ್ಯಲಿಲೆಲಿ ಲೂಲೂಕ್ಲೆ.

- (1) ಢಿಯದಢಿರೂಪಲ ಸೂದೂಂ ಪಿನ್ಬಲಿಚ್ಚೆ.
- (2) ವಿಪ್ಲೂವಕೂಢಿಕಲೆ ಗುನ್ಯಲಿಲೆಲಿ ಅಢುಕ್ಲೂಲಿಚ್ಚೆ.
- (3) ಲೂಲೂಂ ತೂವೂಕೂರೂಂ ಸ್ವತಢ್ಢಾಢೂಂಕೂಲೆಚ್ಚೆ.
- (4) ಠೀರೂಢೂಲಿ ಲೂಪ್ಪೆ ಲೂಠೆಪ್ಪೂಢೂಕೂಢಿಕ್ ಠೂಂಢುಕೂಂಕೂಲೆಚ್ಚೆ.

Options :

- 212807119297 1  
212807119298 2  
212807119299 3  
212807119300 4

Question Number : 330 Question Id : 21280719825 Question Type : MCQ Option Shuffling : No Is Question Mandatory : No Calculator : None

Response Time : N.A Think Time : N.A Minimum Instruction Time : 0

Correct Marks : 5 Wrong Marks : 1

Question Key Details :

Key	Value
-----	-------

கேள்வி: "எதிர்-கொடுக்கல்" இல் பின்வருமா?

- (1) உயரமுள்ள மரம்.
- (2) கை-காலம் மீது மிகுந்த கவனம்.
- (3) மரம் மீது மிகுந்த கவனம்.
- (4) மரம்மீது கவனம் அல்ல.

Options :

- 112807119297 1  
112807119298 2  
112807119299 3  
112807119300 4

Question Number : 230 Question Id : 11280719825 Question Type : MCQ Option Shuffling : No Is Question Mandatory : No Calculator : None  
Response Time : N.A Think Time : N.A Minimum Instruction Time : 0

Correct Marks : 5 Wrong Marks : 1

Question Key Details :

Key	Value
Comprehension	MCQ

"காந்தி-இயக்கம்" இல் கீழ்க்கண்டவற்றில் எது உண்மை?

- (1) மிகவும் உயர்ந்த மட்டத்தில் இருக்க வேண்டும்.
- (2) மிகவும் உயர்ந்த மட்டத்தில் இருக்க வேண்டும்.
- (3) மிகவும் உயர்ந்த மட்டத்தில் இருக்க வேண்டும்.
- (4) மிகவும் உயர்ந்த மட்டத்தில் இருக்க வேண்டும்.

Options :

- 112807119297 1  
112807119298 2  
112807119299 3  
112807119300 4

Question Number : 230 Question Id : 11280719825 Question Type : MCQ Option Shuffling : No Is Question Mandatory : No Calculator : None  
Response Time : N.A Think Time : N.A Minimum Instruction Time : 0

Correct Marks : 5 Wrong Marks : 1

Question Key Details :

Key	Value
Comprehension	MCQ

காந்தி-இயக்கம் உடன்படிக்கையின் வெளிப்பாடு இதுவல்ல :

- (1) மக்கள் கீழ்படியாமல் இயக்கம் விலக்கிக் கொள்ளப்படும்.
- (2) தீவிர தேசியவாதிகள் உடன்படிக்கையை ஆதரித்தனர்.
- (3) மக்கள் அனைவரும் விடுவதற்கு உடன்பட்டனர்.
- (4) கடற்கரை ஓரங்களில் உப்பு உற்பத்தி அனுமதிக்கப்பட்டது.

Options :

- 112807119297 1  
112807119298 2  
112807119299 3  
112807119300 4

Question Number : 230 Question Id : 11280719825 Question Type : MCQ Option Shuffling : No Is Question Mandatory : No Calculator : None  
Response Time : N.A Think Time : N.A Minimum Instruction Time : 0

Correct Marks : 5 Wrong Marks : 1

Question Key Details :

Key	Value
Comprehension	MCQ

“گاندھی-ایرین پکٹ” لکھنے کا نام \_\_\_\_\_ ہے۔

- (1) سائنس دانوں کا گروپ
- (2) گاندھی کی تحریکوں کے خلاف لکھی گئی کتاب
- (3) انگریزوں کی تحریکوں کے خلاف لکھی گئی کتاب
- (4) گاندھی کی تحریکوں کے خلاف لکھی گئی کتاب

Options :

- 112807119297 1
- 112807119298 2
- 112807119299 3
- 112807119300 4

Question Number : 230 Question Id : 21280729825 Question Type : MCQ Option Shuffling : No Is Question Mandatory : No Calculator : None Response Time : N.A Think Time : N.A Minimum Instruction Time : 0

Correct Marks : 5 Wrong Marks : 1

Question Key Details :

Key	Value
Comprehension	MCQ

----- گاندھی ایرین معاہدے (Gandhi-Irwin Pact) کا نتیجہ \_\_\_\_\_ ہے۔

- (1) سول نافرمانی کی واپسی
- (2) انگریزوں کی تحریکوں کے خلاف لکھی گئی کتاب
- (3) تمام قیدیوں کی رہائی
- (4) سبھی کے لیے مساوی حقوق کی اجازت

Options :

- 112807119297 1
- 112807119298 2
- 112807119299 3
- 112807119300 4

Question Number : 231 Question Id : 21280729826 Question Type : MCQ Option Shuffling : No Is Question Mandatory : No Calculator : None Response Time : N.A Think Time : N.A Minimum Instruction Time : 0

Correct Marks : 5 Wrong Marks : 1

Question Key Details :

Key	Value
Comprehension	MCQ

Who was C.N Broomfield ?

- (1) Viceroy of India.
- (2) Gandhi's friend from London.
- (3) Mahatma Gandhi's arresting officer.
- (4) The Judge who presided over Mahatma Gandhi's trial for Non-Cooperation Movement.

Options :

- 112807119301 1
- 112807119302 2
- 112807119303 3
- 112807119304 4

Question Number : 231 Question Id : 21280719501 Question Type : MCQ Option Shuffling : No Is Question Mandatory : No Calculator : None  
Response Time : N.A Think Time : N.A Minimum Instruction Time : 0

Correct Marks : 5 Wrong Marks : 1

Question Key Details :

Key	Value
Comprehension	MCQ

সী. এন. ক্রমফোল্ড কৌন ধা?

- (1) भारत का वायसरॉय
- (2) लंदन से गाँधीजी का मित्र
- (3) महात्मा गाँधी को गिरफ्तार करने वाला अधिकारी
- (4) असहयोग आंदोलन के समय महात्मा गाँधी के मुकदमों को सुनने वाला जज

Options :

212807119501 1

212807119502 2

212807119503 3

212807119504 4

Question Number : 231 Question Id : 21280719502 Question Type : MCQ Option Shuffling : No Is Question Mandatory : No Calculator : None  
Response Time : N.A Think Time : N.A Minimum Instruction Time : 0

Correct Marks : 5 Wrong Marks : 1

Question Key Details :

Key	Value
Comprehension	MCQ

চি. এন. ক্রমফিল্ড কোন আছিল ?

- (1) ভারতবর্ষৰ ভাইসৰয়।
- (2) লণ্ডনৰ পৰা গান্ধীৰ বন্ধু আছিল।
- (3) মহাত্মা গান্ধীক যো গ্ৰেপ্তাৰ কৰা অফিচাৰ।
- (4) মহাত্মা গান্ধীৰ অসহযোগ আন্দোলনৰ পৰীক্ষণৰ (ট্ৰায়েল) জজ আছিল।

Options :

212807119501 1

212807119502 2

212807119503 3

212807119504 4

Question Number : 231 Question Id : 21280719503 Question Type : MCQ Option Shuffling : No Is Question Mandatory : No Calculator : None  
Response Time : N.A Think Time : N.A Minimum Instruction Time : 0

Correct Marks : 5 Wrong Marks : 1

Question Key Details :

Key	Value
Comprehension	MCQ

নি. এন. ক্রমফিল্ড কে ছিলেন ?

- (1) ভারতের ভাইসরয়
- (2) লন্ডন থেকে গান্ধীৰ বন্ধু
- (3) মহাত্মা গান্ধীকে যে অফিসাৰ গ্ৰেপ্তাৰ করেন
- (4) অসহযোগে আন্দোলনের জন্য মহাত্মা গান্ধীকে মামলায় যে বিচারক সভাপতিত্ব করেছিলেন

Options :

212807119501 1

212807119502 2



212807119303 3  
212807119304 4

Question Number : 231 Question Id : 21280719826 Question Type : MCQ Option Shuffling : No Is Question Mandatory : No Calculator : None  
Response Time : N.A Think Time : N.A Minimum Instruction Time : 0

Correct Marks : 5 Wrong Marks : 1

Question Key Details :

Key	Value
Comprehension	MCQ

सी. एन. ब्रूमफील्ड कोण होता ?

- (1) भारतना चार्जसरोय.
- (2) लंडन जातेना गांधीजीना मित्र.
- (3) महात्मा गांधीनी अटककारना अधिकारी.
- (4) न्यायधारा के लोभले असहकारनी चलयण भाये महात्मा गांधीनी ट्रायलनी अध्यक्षता करी स्ती.

Options :

212807119301 1  
212807119302 2  
212807119303 3  
212807119304 4

Question Number : 231 Question Id : 21280719826 Question Type : MCQ Option Shuffling : No Is Question Mandatory : No Calculator : None  
Response Time : N.A Think Time : N.A Minimum Instruction Time : 0

Correct Marks : 5 Wrong Marks : 1

Question Key Details :

Key	Value
Comprehension	MCQ

सी. एन. ब्रूमफील्ड यारु ?

- (1) धारतद व्पेणराय
- (2) लण्डनन गणधियवर स्नेहक
- (3) महात्मा गणधियनु बणधिसद अधिका
- (4) असहकार चलयणगे गणधियवर वियारणे नेक्ष्त्र वसिसद न्यायधिर.

Options :

212807119301 1  
212807119302 2  
212807119303 3  
212807119304 4

Question Number : 231 Question Id : 21280719826 Question Type : MCQ Option Shuffling : No Is Question Mandatory : No Calculator : None  
Response Time : N.A Think Time : N.A Minimum Instruction Time : 0

Correct Marks : 5 Wrong Marks : 1

Question Key Details :

Key	Value
Comprehension	MCQ

सी. एन. ब्रूमफील्ड कोण होते ?

- (1) भारताचे व्हाईसरॉय.
- (2) गांधीजींचे लंडनमधील मित्र.
- (3) गांधीजींना अटक करणारा अधिकारी.
- (4) असहकार आंदोलना संबंधीचा महात्मा गांधीजींचा खटला ज्यांच्या समोर चालला ते न्यायाधीश.

Options :

212807119301 1

212807119302 1  
212807119303 3  
212807119304 4

Question Number : 231 Question Id : 21280729826 Question Type : MCQ Option Shuffling : No Is Question Mandatory : No Calculator : None  
Response Time : N.A Think Time : N.A Minimum Instruction Time : 0

Correct Marks : 5 Wrong Marks : 1

Question Key Details :

Key	Value
Comprehension	MCQ

ആരായിരുന്നു C.N. ദബോഫീൽഡ് ?

- (1) ഇന്ത്യൻ വൈസറോയി
- (2) ഗാന്ധിജിയുടെ ലണ്ടനിലെ സുഹൃത്ത്
- (3) മഹാത്മാഗാന്ധിയെ അറസ്റ്റ് ചെയ്ത ഉദ്യോഗസ്ഥൻ
- (4) നിസ്സഹരണ പ്രസ്ഥാനവുമായി ബന്ധപ്പെട്ട കേസിൽ ഗാന്ധിയെ വിചാരണ ചെയ്ത പ്രധാന ന്യായാധിപൻ.

Options :

212807119301 1  
212807119302 1  
212807119303 3  
212807119304 4

Question Number : 231 Question Id : 21280729826 Question Type : MCQ Option Shuffling : No Is Question Mandatory : No Calculator : None  
Response Time : N.A Think Time : N.A Minimum Instruction Time : 0

Correct Marks : 5 Wrong Marks : 1

Question Key Details :

Key	Value
Comprehension	MCQ

ഒ-എ.എ. ടൂണിംഗ് ?

- (1) ബാബിൾ ബാബിൾ
- (2) റെസിടൻസ് റെസിടൻസ്
- (3) റെസിടൻസ് റെസിടൻസ്
- (4) ജെ.എ.എ. ടൂണിംഗ് ടൂണിംഗ്

Options :

212807119301 1  
212807119302 1  
212807119303 3  
212807119304 4

Question Number : 231 Question Id : 21280729826 Question Type : MCQ Option Shuffling : No Is Question Mandatory : No Calculator : None  
Response Time : N.A Think Time : N.A Minimum Instruction Time : 0

Correct Marks : 5 Wrong Marks : 1

Question Key Details :

Key	Value
Comprehension	MCQ

ਸੀ.ਐਨ. ਬਰੁਮਫੀਲਡ ਕੌਣ ਸੀ?

- (1) ਭਾਰਤ ਦਾ ਵਾਇਸਰਾਏ।
- (2) ਲੰਡਨ ਤੋਂ ਗਾਂਧੀ ਦਾ ਮਿੱਤਰ।
- (3) ਮਹਾਤਮਾ ਗਾਂਧੀ ਨੂੰ ਗ੍ਰਿਫਤਾਰ ਕਰਨ ਵਾਲਾ ਅਫਸਰ।
- (4) ਮਹਾਤਮਾ ਗਾਂਧੀ ਦੇ ਅਸਹਿਯੋਗ ਅੰਦੋਲਨ ਦੀ ਪੈਰਵੀ ਵੇਲੇ ਦਾ ਜੱਜ।

Options :

- 212807119301 1
- 212807119302 2
- 212807119303 3
- 212807119304 4

Question Number : 231 Question Id : 21280719826 Question Type : MCQ Option Shuffling : No Is Question Mandatory : No Calculator : None Response Time : N.A Think Time : N.A Minimum Instruction Time : 0

Correct Marks : 5 Wrong Marks : 1

Question Key Details :

Key	Value
Comprehension	MCQ

ਸੀ.ਐਨ. ਬਰੁਮਫੀਲਡ ਏਨਪਵਰ ਬਾਗ ?

- (1) ਇੰਨ੍ਹੀਯਾਬੀਨ ਐਵਰਬਰਾਯ
- (2) ਕਾਨ੍ਹੀਯੀਨ ਲਠਨਦਨ ਨਠਨਪਾ
- (3) ਮਕਾਤਮਾ ਕਾਨ੍ਹੀਯਾ ਕਠਨੁ ਸੋਯਠ ਅਤੀਕਾਗੀ
- (4) ਮਕਾਤਮਾ ਕਾਨ੍ਹੀਯਕੁ ਏਤੀਰਾਨ ਓਠ੍ਠੁਯੇਯਯਾਯੇਯ ਇਯਕਕ ਵਯੁਕੁਕੁ ਵੀਯਾਗਠਠਯੀਨ ਨ੍ਰੀਯਪਠੀ

Options :

- 212807119301 1
- 212807119302 2
- 212807119303 3
- 212807119304 4

Question Number : 231 Question Id : 21280719826 Question Type : MCQ Option Shuffling : No Is Question Mandatory : No Calculator : None Response Time : N.A Think Time : N.A Minimum Instruction Time : 0

Correct Marks : 5 Wrong Marks : 1

Question Key Details :

Key	Value
Comprehension	MCQ

C.N ਫ਼ਰਮਸ਼ੀਫ਼ ਵੇਵਰ ?

- (1) ਝਾਰਠ ਵੇਨੋਰਾਯੋ
- (2) ਏਦਨੋ ਸੁੰਦੀ ਗਾਠੀ ਯੋਯਕੁ ਸ਼ੈਯਾਠੁਦੁ
- (3) ਮਯਾਠੁ ਗਾਠੀ ਨੀ ਅਠੁਗਿੰਚੁ ਅਠੀਕਾਰੀ
- (4) ਗਾਠੀ ਸਯਾਠੁ ਨੀਰਾਕਰਠ ਏਠੁਯੁ ਠੁਯਠਾਠੀਕੀ ਮੁਯਯੁਦੁਗਾ ਏਠੁ ਏਠੁ

Options :

- 212807119301 1
- 212807119302 2
- 212807119303 3
- 212807119304 4

Question Number : 231 Question Id : 21280719826 Question Type : MCQ Option Shuffling : No Is Question Mandatory : No Calculator : None Response Time : N.A Think Time : N.A Minimum Instruction Time : 0

Correct Marks : 5 Wrong Marks : 1

Question Key Details :

Key	Value
Comprehension	MCQ

سی۔ این۔ بروم فیلڈ (C.N Broomfield) کون تھا۔

(1) ہندوستان کا وائسرائے

(2) لندن سے گاندھی کا دوست

(3) مہاتما گاندھی کو گرفتار کرنے والا آفیسر

(4) بی جے پی نے عدم تعاون کے مقدمہ میں گاندھی کے مقدمے کی صدارت کی

Options :

212807119501 : 1

212807119502 : 1

212807119503 : 1

212807119504 : 4

Question Number : 232 Question Id : 21280729827 Question Type : MCQ Option Shuffling : No Is Question Mandatory : No Calculator : None

Response Time : N.A Think Time : N.A Minimum Instruction Time : 0

Correct Marks : 5 Wrong Marks : 1

Question Key Details :

Key	Value
Comprehension	MCQ

The Khilafat Movement was led by \_\_\_\_\_.

(1) Muhammad Ali

(2) Muhammad Ali Jinnah

(3) Abul Kalam Azad

(4) Sikandar Sahu

Options :

212807119505 : 1

212807119506 : 1

212807119507 : 1

212807119508 : 4

Question Number : 232 Question Id : 21280729827 Question Type : MCQ Option Shuffling : No Is Question Mandatory : No Calculator : None

Response Time : N.A Think Time : N.A Minimum Instruction Time : 0

Correct Marks : 5 Wrong Marks : 1

Question Key Details :

Key	Value
Comprehension	MCQ

खिलाफत आंदोलन का नेतृत्व \_\_\_\_\_ ने किया था।

(1) मुहम्मद अली

(2) मुहम्मद अली जिन्ना

(3) अबुल कलाम आजाद

(4) सिकंदर साहू

Options :

212807119509 : 1

212807119510 : 1

212807119511 : 1

212807119512 : 4

Question Number : 232 Question Id : 21280719927 Question Type : MCQ Option Shuffling : No Is Question Mandatory : No Calculator : None  
Response Time : N.A Think Time : N.A Minimum Instruction Time : 0

Correct Marks : 5 Wrong Marks : 1

Question Key Details :

Key	Value
Comprehension	MCQ

बिलासत आन्दोलनब बुनि हबिद्विग —

- (1) महशान आलि
- (2) महशान आलि जिलाह
- (3) आवुल कालाम आजाम
- (4) दिवन्दर साह

Options :

212807119905 1

212807119906 2

212807119907 3

212807119908 4

Question Number : 232 Question Id : 21280719927 Question Type : MCQ Option Shuffling : No Is Question Mandatory : No Calculator : None  
Response Time : N.A Think Time : N.A Minimum Instruction Time : 0

Correct Marks : 5 Wrong Marks : 1

Question Key Details :

Key	Value
Comprehension	MCQ

बिलारुद आन्दोलन वार द्वारा परिचालित हरेद्विग —

- (1) महशान आलि
- (2) महशान आलि जिला
- (3) आवुल कालाम आजाम
- (4) दिवन्दर साह

Options :

212807119903 1

212807119904 2

212807119905 3

212807119906 4

Question Number : 232 Question Id : 21280719927 Question Type : MCQ Option Shuffling : No Is Question Mandatory : No Calculator : None  
Response Time : N.A Think Time : N.A Minimum Instruction Time : 0

Correct Marks : 5 Wrong Marks : 1

Question Key Details :

Key	Value
Comprehension	MCQ

भीलडल अणवणनु \_\_\_\_\_ द्वारा नेतृत्व करवामी आण्यु हतु :

- (1) मुहंमद अली
- (2) मुहंमद अली जीला
- (3) अणुल कलाम आजाह
- (4) सीकंदर साह

Options :

212807119905 1

212807119906 2

212807119907 3

212807119308\_4

Question Number : 232 Question Id : 21280719827 Question Type : MCQ Option Shuffling : No Is Question Mandatory : No Calculator : None  
Response Time : N.A Think Time : N.A Minimum Instruction Time : 0

Correct Marks : 5 Wrong Marks : 1

Question Key Details :

Key	Value
Comprehension	MCQ

ಖೀಲಾಫತ್ ಚಳುವಳಿಯ ನೇತೃತ್ವ ವಹಿಸಿದ್ದು ಇದರಿಂದ :

- (1) ಮಹಮ್ಮದ ಅಲಿ
- (2) ಮಹಮ್ಮದ ಅಲಿ ಜಿನ್ನಾ
- (3) ಅಬ್ದುಲ್ ಕಲಾಮ್ ಅಜಾದ್
- (4) ಸಿಕಂದರ್ ಸಾಹು

Options :

212807119305\_1

212807119306\_2

212807119307\_3

212807119308\_4

Question Number : 232 Question Id : 21280719827 Question Type : MCQ Option Shuffling : No Is Question Mandatory : No Calculator : None  
Response Time : N.A Think Time : N.A Minimum Instruction Time : 0

Correct Marks : 5 Wrong Marks : 1

Question Key Details :

Key	Value
Comprehension	MCQ

ಖಿಲಾಫತ್ ಚಳುವಳಿಯ ನೇತೃತ್ವ ವಹಿಸಿದ್ದು ಇದರಿಂದ :

- (1) ಮುಹಮ್ಮದ ಅಲಿ
- (2) ಮುಹಮ್ಮದ ಅಲಿ ಜಿನ್ನಾ
- (3) ಅಬ್ದುಲ್ ಕಲಾಮ್ ಅಜಾದ್
- (4) ಸಿಕಂದರ್ ಸಾಹು

Options :

212807119305\_1

212807119306\_2

212807119307\_3

212807119308\_4

Question Number : 232 Question Id : 21280719827 Question Type : MCQ Option Shuffling : No Is Question Mandatory : No Calculator : None  
Response Time : N.A Think Time : N.A Minimum Instruction Time : 0

Correct Marks : 5 Wrong Marks : 1

Question Key Details :

Key	Value
Comprehension	MCQ

ಖಿಲಾಫತ್ ಚಳುವಳಿಯ ನೇತೃತ್ವ ವಹಿಸಿದ್ದು ಇದರಿಂದ :

- (1) ಮುಹಮ್ಮದ ಅಲಿ
- (2) ಮುಹಮ್ಮದ ಅಲಿ ಜಿನ್ನಾ
- (3) ಅಬ್ದುಲ್ ಕಲಾಮ್ ಅಜಾದ್
- (4) ಸಿಕಂದರ್ ಸಾಹು

Options :

212807119305\_1

212807119306\_2

212507119307\_3  
212507119308\_4

Question Number : 231 Question Id : 21280729827 Question Type : MCQ Option Shuffling : No Is Question Mandatory : No Calculator : None  
Response Time : N.A Think Time : N.A Minimum Instruction Time : 0

Correct Marks : 5 Wrong Marks : 1

Question Key Details :

Key	Value
Comprehension	MCQ

சூரியன் பாலகாலம் கால :

- (1) மலர்ச்சி கால
- (2) மலர்ச்சி கால கால
- (3) கால கால கால
- (4) கால கால

Options :

212507119305\_1  
212507119306\_2  
212507119307\_3  
212507119308\_4

Question Number : 232 Question Id : 21280729827 Question Type : MCQ Option Shuffling : No Is Question Mandatory : No Calculator : None  
Response Time : N.A Think Time : N.A Minimum Instruction Time : 0

Correct Marks : 5 Wrong Marks : 1

Question Key Details :

Key	Value
Comprehension	MCQ

பிலாஹி அப்துல் கால கால :

- (1) கால கால
- (2) கால கால கால
- (3) கால கால கால
- (4) கால கால

Options :

212507119305\_1  
212507119306\_2  
212507119307\_3  
212507119308\_4

Question Number : 233 Question Id : 21280729827 Question Type : MCQ Option Shuffling : No Is Question Mandatory : No Calculator : None  
Response Time : N.A Think Time : N.A Minimum Instruction Time : 0

Correct Marks : 5 Wrong Marks : 1

Question Key Details :

Key	Value
Comprehension	MCQ

கால கால இயக்கத்திற்கு கால கால கால கால ?

- (1) கால கால
- (2) கால கால கால
- (3) கால கால கால
- (4) கால கால கால

Options :

212507119305\_1

212507119305 1  
212507119307 3  
212507119308 4

Question Number : 232 Question Id : 21250729827 Question Type : MCQ Option Shuffling : No Is Question Mandatory : No Calculator : None  
Response Time : N.A Think Time : N.A Minimum Instruction Time : 0  
Correct Marks : 5 Wrong Marks : 1  
Question Key Details :

Key	Value
Comprehension	MCQ

ఖిలాఫత్ ఉద్యమానికి నేతృత్వం వహించింది ఎవరు ?

- (1) మహమ్మద్ అలీ
- (2) మహమ్మద్ అలీ జిన్నా
- (3) అబుల్ కలామ్ ఆజాద్
- (4) సికందర్ సాహా

Options :  
212507119305 1  
212507119306 2  
212507119307 3  
212507119308 4

Question Number : 232 Question Id : 21250729827 Question Type : MCQ Option Shuffling : No Is Question Mandatory : No Calculator : None  
Response Time : N.A Think Time : N.A Minimum Instruction Time : 0  
Correct Marks : 5 Wrong Marks : 1  
Question Key Details :

Key	Value
Comprehension	MCQ

خلافت تحریک کی کس نے رہبری کی

- (1) محمد علی
- (2) محمد علی جناح
- (3) ابوالکلام آزاد
- (4) سکندر ساہو

Options :  
212507119305 1  
212507119306 2  
212507119307 3  
212507119308 4

Question Number : 233 Question Id : 21250729828 Question Type : MCQ Option Shuffling : No Is Question Mandatory : No Calculator : None  
Response Time : N.A Think Time : N.A Minimum Instruction Time : 0  
Correct Marks : 5 Wrong Marks : 1  
Question Key Details :

Key	Value
Comprehension	MCQ



Trace out the various events of the freedom struggle to independence of India in a chronological order :

- (A) Dandi March by Mahatma Gandhi.
- (B) Rowlatt Satyagraha.
- (C) Independence day was observed.
- (D) Quit India Movement.
- (E) Non-Cooperation Movement.

Choose the correct answer from the options given below :

- (1) (D), (E), (C), (B), (A)
- (2) (E), (D), (C), (B), (A)
- (3) (B), (E), (C), (A), (D)
- (4) (A), (B), (C), (D), (E)

Options :

- 212807119309 1
- 212807119310 2
- 212807119311 3
- 212807119312 4

Question Number : 233 Question Id : 21280719315 Question Type : MCQ Option Shuffling : No Is Question Mandatory : No Calculator : None  
Response Time : N.A Think Time : N.A Minimum Instruction Time : 0

Correct Marks : 5 Wrong Marks : 1

Question Key Details :

Key	Value
Comprehension	MCQ

भारतीय स्वतंत्रता संग्राम को विभिन्न घटनाओं को उनके उचित कालक्रम में व्यवस्थित कीजिए :

- (A) महात्मा गाँधी द्वारा दाण्डी यात्रा
- (B) रॉलेट सत्याग्रह
- (C) स्वतंत्रता दिवस का अवलोकन
- (D) भारत छोड़ो आंदोलन
- (E) असहयोग आंदोलन

नीचे दिए गए विकल्पों में से सही उत्तर का चयन कीजिए :

- (1) (D), (E), (C), (B), (A)
- (2) (E), (D), (C), (B), (A)
- (3) (B), (E), (C), (A), (D)
- (4) (A), (B), (C), (D), (E)

Options :

- 212807119309 1
- 212807119310 2
- 212807119311 3
- 212807119312 4

Question Number : 233 Question Id : 21280719325 Question Type : MCQ Option Shuffling : No Is Question Mandatory : No Calculator : None  
Response Time : N.A Think Time : N.A Minimum Instruction Time : 0

Correct Marks : 5 Wrong Marks : 1

Question Key Details :

Key	Value
Comprehension	MCQ

ক্ৰম অনুসৰি ভাৰতৰ স্বাধীনতা সংগ্ৰামৰ পৰা স্বাধীনতাৰৈকে পৰিঘটনাৰ সন্ধান উলিওৱা :

- (A) মহাত্মা গান্ধীৰ দ্বাৰা ভাৰ্তি যাত্ৰা
- (B) বাঙলাটি সত্যাগ্ৰহ
- (C) স্বাধীনতা দিবস পৰ্যবেক্ষণ কৰা হৈছিল
- (D) ভাৰত আৰু আন্দোলন
- (E) অসহযোগ আন্দোলন

তলত দিয়া বিকল্পসমূহৰপৰা শুদ্ধ উত্তৰটো বাছি উলিওৱা :

- (1) (D), (E), (C), (B), (A)
- (2) (E), (D), (C), (B), (A)
- (3) (B), (E), (C), (A), (D)
- (4) (A), (B), (C), (D), (E)

Options :

212807119309 : 1

212807119310 : 2

212807119311 : 3

212807119312 : 4

Question Number : 233 Question Id : 21280729828 Question Type : MCQ Option Shuffling : No Is Question Mandatory : No Calculator : None  
Response Time : N.A Think Time : N.A Minimum Instruction Time : 0

Correct Marks : 5 Wrong Marks : 1

Question Key Details :

Key	Value
Comprehension	MCQ

ভাৰতৰ স্বাধীনতা সংগ্ৰামৰ নানা ধৰণেৰে ঘটনাসমূহকে কালানুক্রমিকভাৱে বুজিবৰ বস্তু :

- (A) মহাত্মা গান্ধী কৰ্তৃক ভাৰ্তি যাত্ৰা
- (B) বাঙলাটি সত্যাগ্ৰহ
- (C) স্বাধীনতা দিবস উদ্‌যাপিত হৈছিল
- (D) ভাৰত ছাড়ো আন্দোলন
- (E) অসহযোগ আন্দোলন

নিচ্তে প্ৰদত্ত বিকল্পগুলি পেকে সঠিক উত্তৰটি বেছে নোও :

- (1) (D), (E), (C), (B), (A)
- (2) (E), (D), (C), (B), (A)
- (3) (B), (E), (C), (A), (D)
- (4) (A), (B), (C), (D), (E)

Options :

212807119309 : 1

212807119310 : 2

212807119311 : 3

212807119312 : 4

Question Number : 233 Question Id : 21280729838 Question Type : MCQ Option Shuffling : No Is Question Mandatory : No Calculator : None  
Response Time : N.A Think Time : N.A Minimum Instruction Time : 0

Correct Marks : 5 Wrong Marks : 1

Question Key Details :

Key	Value
-----	-------

ભારતની આઝાદી માટેની સ્વતંત્રતા ચળવળનાની વિવિધ ઘટનાઓને ઠીકઠીકઠીક ઓર્ડરમાં શોધો.

- (A) મહાત્મા ગાંધી દ્વારા દાંડીકૃત્ય.
- (B) લોરેટ સત્યાગ્રહ.
- (C) સ્વતંત્રતા દિવસ ઉજવવામાં આવ્યો છે.
- (D) હિંદ છોડો ચળવળ
- (E) અસહકારની ચળવળ.

નીચે આપેલા વિકલ્પોમાંથી સાચો ઉત્તર શોધો :

- (1) (D), (E), (C), (B), (A)
- (2) (E), (D), (C), (B), (A)
- (3) (B), (E), (C), (A), (D)
- (4) (A), (B), (C), (D), (E)

Options :

212807119309 1

212807119310 2

212807119311 3

212807119312 4

Question Number : 233 Question Id : 21280719828 Question Type : MCQ Option Shuffling : No Is Question Mandatory : No Calculator : None  
Response Time : N.A Think Time : N.A Minimum Instruction Time : 0

Correct Marks : 5 Wrong Marks : 1

Question Key Details :

Key	Value
Comprehension	MCQ

ધારણ સ્વાતંત્ર્યકૃત્ત્વે નહેદ સ્વાતંત્ર્ય સંગ્રામીદ હલવુ સંઘર્ષો(ક)નુ કાલાસુ-ક્રમવર્તી પક્તે હવ્ત્ત્વે :

- (A) મહાત્મા ગાંધીયવરિંદ વંડી નહેદી
- (B) કૌલત સત્યાગ્રહ
- (C) સ્વાતંત્ર્ય દિનાષરણીયનુ અષરિસીદુ
- (D) કૃત્ત્વે ઇંડીંયા ષરુવળ
- (E) અસહકાર ષરુવળ

કેળે નેડીદીવ અય્કેળેંદ સરિયાદ લાત્તરવનુ અરિ.

- (1) (D), (E), (C), (B), (A)
- (2) (E), (D), (C), (B), (A)
- (3) (B), (E), (C), (A), (D)
- (4) (A), (B), (C), (D), (E)

Options :

212807119309 1

212807119310 2

212807119311 3

212807119312 4

Question Number : 233 Question Id : 21280719828 Question Type : MCQ Option Shuffling : No Is Question Mandatory : No Calculator : None  
Response Time : N.A Think Time : N.A Minimum Instruction Time : 0

Correct Marks : 5 Wrong Marks : 1

Question Key Details :

Key	Value
-----	-------

भारताच्या स्वातंत्र्य चळवळीतील विविध घटना कालानुक्रमे योग्य क्रमाने मांडा.

- (A) महात्मा गांधीजींच्या नेतृत्वा खालील दांडी यात्रा.
- (B) रौलट सत्याग्रह.
- (C) स्वातंत्र्य दिन पाळला गेला.
- (D) छोडो भारत चळवळ.
- (E) असहकार आंदोलन.

खाली दिलेल्या पर्यायांमधून योग्य पर्याय निवडा :

- (1) (D), (E), (C), (B), (A)
- (2) (E), (D), (C), (B), (A)
- (3) (B), (E), (C), (A), (D)
- (4) (A), (B), (C), (D), (E)

Options :

- 212807119309 : 1
- 212807119310 : 2
- 212807119311 : 3
- 212807119312 : 4

Question Number : 233 Question Id : 21280729828 Question Type : MCQ Option Shuffling : No Is Question Mandatory : No Calculator : None  
Response Time : N.A Think Time : N.A Minimum Instruction Time : 0

Correct Marks : 5 Wrong Marks : 1

Question Key Details :

Key	Value
Comprehension	MCQ

ഇന്ത്യൻ സ്വാതंत्र्य സമര ചരിത്ര സംഭവങ്ങളെ കാലानुक्रमे क्रमक्रमानुसരിച്ച് क्रमिकरीकृत

- (A) तास्यीक्षियुदे रणस्यी तारिश्च
- (B) राखर्त्तु सत्याग्रहः
- (C) स्वातंत्र्य दिनः ऋतुखण्डितः
- (D) क्षीर्त्तु इन्त्यु प्रसमरणः
- (E) निसहकार आंदोलनः

താഴെ തന്നിരിക്കുന്നവയിൽ നിന്നും ശരിയായ ഉത്തരം തിരഞ്ഞെടുത്ത് എഴുതുക.

- (1) (D), (E), (C), (B), (A)
- (2) (E), (D), (C), (B), (A)
- (3) (B), (E), (C), (A), (D)
- (4) (A), (B), (C), (D), (E)

Options :

- 212807119309 : 1
- 212807119310 : 2
- 212807119311 : 3
- 212807119312 : 4

Question Number : 233 Question Id : 21280729828 Question Type : MCQ Option Shuffling : No Is Question Mandatory : No Calculator : None  
Response Time : N.A Think Time : N.A Minimum Instruction Time : 0

Correct Marks : 5 Wrong Marks : 1

Question Key Details :

Key	Value
Comprehension	MCQ

ਜਿਹੜੇ ਕੁਝ ਵੀ ਸ਼ਬਦਾਂ ਦਾ ਅਰਥ ਹੈ ਉਹਨਾਂ ਦਾ ਅਰਥ ਦੱਸੋ।

- (A) ਨਿਰਾਸ਼ਾ ਭਰਿਆ ਹੋਇਆ
- (B) ਆਨੰਦ ਭਰਿਆ ਹੋਇਆ
- (C) ਆਖਰੀ ਸੰਕੇਤ
- (D) ਆਖਰੀ ਸੰਕੇਤ
- (E) ਆਖਰੀ ਸੰਕੇਤ

ਜਿਹੜੇ ਕੁਝ ਵੀ ਸ਼ਬਦਾਂ ਦਾ ਅਰਥ ਹੈ ਉਹਨਾਂ ਦਾ ਅਰਥ ਦੱਸੋ।

- (1) (D), (E), (C), (B), (A)
- (2) (E), (D), (C), (B), (A)
- (3) (B), (E), (C), (A), (D)
- (4) (A), (B), (C), (D), (E)

Options :

- 212807119309 1
- 212807119310 2
- 212807119311 3
- 212807119312 4

Question Number : 233 Question Id : 21280719838 Question Type : MCQ Option Shuffling : No Is Question Mandatory : No Calculator : None  
Response Time : N.A Think Time : N.A Minimum Instruction Time : 0

Correct Marks : 5 Wrong Marks : 1

Question Key Details :

Key	Value
Comprehension	MCQ

ਭਾਰਤ ਦੀ ਅਜ਼ਾਦੀ ਲਈ ਚੱਲੇ ਅਜ਼ਾਦੀ ਦੇ ਅੰਦੋਲਨ ਦੀਆਂ ਘਟਨਾਵਾਂ ਨੂੰ ਕਾਲ-ਕ੍ਰਮ ਅਨੁਸਾਰ ਕਰੋ।

- (A) ਮਹਾਤਮਾ ਗਾਂਧੀ ਦੁਆਰਾ ਡਾਂਡੀ ਮਾਰਚ।
- (B) ਰੋਲਟ ਸਤਿਆਗ੍ਰਹਿ।
- (C) ਅਜ਼ਾਦੀ ਦਾ ਦਿਨ ਰਾਖਵਾਂ।
- (D) ਭਾਰਤ ਛੱਡੋ ਅੰਦੋਲਨ।
- (E) ਅਸਹਿਯੋਗ ਅੰਦੋਲਨ।

ਹੇਠ ਲਿਖਿਆ ਵਿਕਲਪ ਵਿੱਚ ਸਹੀ ਉੱਤਰ ਦੀ ਚੋਣ ਕਰੋ :

- (1) (D), (E), (C), (B), (A)
- (2) (E), (D), (C), (B), (A)
- (3) (B), (E), (C), (A), (D)
- (4) (A), (B), (C), (D), (E)

Options :

- 212807119309 1
- 212807119310 2
- 212807119311 3
- 212807119312 4

Question Number : 233 Question Id : 21280719838 Question Type : MCQ Option Shuffling : No Is Question Mandatory : No Calculator : None  
Response Time : N.A Think Time : N.A Minimum Instruction Time : 0

Correct Marks : 5 Wrong Marks : 1

Question Key Details :

Key	Value
Comprehension	MCQ

இந்தியாவின் விடுதலைக்கான சுதந்திரப் போராட்ட நிகழ்வுகளை காலவரிசைப்படி அமைக்கவும் :

- மகாத்மா காந்தி நடத்திய தண்டி நடைப்பயணப் போராட்டம்
- ரௌலட் சதியாகிரகம்
- சுதந்திர நாள் கடைபிடிக்கப்பட்டது
- வெள்ளையனே வெளியேறு இயக்கம்
- ஒத்துழையாமை இயக்கம்

கீழ்க்காண்பதில் சரியான விடையைத் தேர்ந்தெடுக்கவும் :

- (D), (E), (C), (B), (A)
- (E), (D), (C), (B), (A)
- (B), (E), (C), (A), (D)
- (A), (B), (C), (D), (E)

Options :

- 212807119309 1
- 212807119310 2
- 212807119311 3
- 212807119312 4

Question Number : 333 Question Id : 21280719828 Question Type : MCQ Option Shuffling : No Is Question Mandatory : No Calculator : None Response Time : N.A Think Time : N.A Minimum Instruction Time : 0

Correct Marks : 5 Wrong Marks : 1

Question Key Details :

Key	Value
Comprehension	MCQ

ஊர்த் சூழல்த் துறையில் விவர ஘டனலனசு கால த்ரமாமசாரலா அமர்துல்தி.

- மதுத்யு காந்தி த் தல்தீ துர்த் (ரூல்தி)
- ரூல்த் தத்யாகிரதா
- சூழல்த் துறையில் திதீத்யுதல அருத்யுதீல்தி
- தீதீதீ இல்தீத்யு அத்யுதல
- ததீத்யு திராகரல அத்யுதல

தீல்த் அமர்துல்தி திதீத்யுதலதில் ததீதீ ததமாதலனல வித்யுதீல்தீ :

- (D), (E), (C), (B), (A)
- (E), (D), (C), (B), (A)
- (B), (E), (C), (A), (D)
- (A), (B), (C), (D), (E)

Options :

- 212807119309 1
- 212807119310 2
- 212807119311 3
- 212807119312 4

Question Number : 233 Question Id : 21280719515 Question Type : MCQ Option Shuffling : No Is Question Mandatory : No Calculator : None  
Response Time : N.A Think Time : N.A Minimum Instruction Time : 0

Correct Marks : 5 Wrong Marks : 1

Question Key Details :

Key	Value
Comprehension	MCQ

تحریک آزادی کے دوران کے واقعات کو تاریخی اعتبار سے ترتیب دیں۔

(A) گاندھی کا ڈانڈی مارچ

(B) رولٹ سٹیو گره

(C) آزادی کا دن منایا گیا

(D) ہندوستان چھوڑو تحریک

(E) عدم تعاون

دیئے گئے انتخابات میں سے درست جواب کا انتخاب کریں۔

(D), (E), (C), (B), (A) (1)

(E), (D), (C), (B), (A) (2)

(B), (E), (C), (A), (D) (3)

(A), (B), (C), (D), (E) (4)

Options :

212807119509 1

212807119510 2

212807119511 3

212807119512 4

Question Number : 234 Question Id : 21280719829 Question Type : MCQ Option Shuffling : No Is Question Mandatory : No Calculator : None  
Response Time : N.A Think Time : N.A Minimum Instruction Time : 0

Correct Marks : 5 Wrong Marks : 1

Question Key Details :

Key	Value
Comprehension	MCQ

Arrange the following in a chronological manner :

(A) Khilafat Movement.

(B) Ahmedabad Workers Movement.

(C) Bardoli Peasant Movement.

(D) Champaran Movement.

(E) 'Purna Swaraj' accepted as goal at Lahore.

Choose the correct answer from the options given below :

(1) (C), (D), (B), (A), (E)

(2) (D), (B), (A), (C), (E)

(3) (B), (D), (A), (C), (E)

(4) (C), (A), (B), (D), (E)

Options :

212807119513 1

212807119314 1  
212807119315 3  
212807119316 4

Question Number : 234 Question Id : 21280729829 Question Type : MCQ Option Shuffling : No Is Question Mandatory : No Calculator : None  
Response Time : N.A Think Time : N.A Minimum Instruction Time : 0  
Correct Marks : 5 Wrong Marks : 1  
Question Key Details :

Key	Value
Comprehension	MCQ

निम्न को उनके उचित कालक्रम में व्यवस्थित कीजिए :

- (A) खिलाफत आंदोलन
- (B) अहमदाबाद का मजदूर आंदोलन
- (C) भारदोली का किसान आंदोलन
- (D) चम्पारन आंदोलन
- (E) लाहौर में 'पूर्ण स्वराज' के ध्येय को स्वीकार करना

नीचे दिए गए विकल्पों में से सही उत्तर का चयन कीजिए :

- (1) (C), (D), (B), (A), (E)
- (2) (D), (B), (A), (C), (E)
- (3) (B), (D), (A), (C), (E)
- (4) (C), (A), (B), (D), (E)

Options :

212807119313 1  
212807119314 2  
212807119315 3  
212807119316 4

Question Number : 234 Question Id : 21280729829 Question Type : MCQ Option Shuffling : No Is Question Mandatory : No Calculator : None  
Response Time : N.A Think Time : N.A Minimum Instruction Time : 0  
Correct Marks : 5 Wrong Marks : 1  
Question Key Details :

Key	Value
Comprehension	MCQ

क्रम अनुसार सजावात :

- (A) खिलाफत आन्दोलन
- (B) आहमदाबाद का श्रमिक आन्दोलन
- (C) कवदली कृषक आन्दोलन
- (D) चम्पारन आन्दोलन
- (E) लाहौर में लम्बा आছিল "पूर्ण स्वराज"

तलत दिया विक्रमसमूहपना शुक्र उज्वाटे बाहि उलिठवा :

- (1) (C), (D), (B), (A), (E)
- (2) (D), (B), (A), (C), (E)
- (3) (B), (D), (A), (C), (E)
- (4) (C), (A), (B), (D), (E)

Options :



212507119313 1  
212507119314 2  
212507119315 3  
212507119316 4

Question Number : 234 Question Id : 21250719929 Question Type : MCQ Option Shuffling : No Is Question Mandatory : No Calculator : None  
Response Time : N.A Think Time : N.A Minimum Instruction Time : 0

Correct Marks : 5 Wrong Marks : 1

Question Key Details :

Key	Value
Comprehension	MCQ

নিচের ঘটনাগুলি কালানুক্রমিকভাবে সাজাও :

- (A) খিলাফত আন্দোলন
- (B) আহমেদাবাদের শ্রমিক আন্দোলন
- (C) বঙ্গদৌলি কৃষক আন্দোলন
- (D) চম্পারণ বিদ্রোহ
- (E) লাহোরে 'পূর্ণ বরাজ' লক্ষ্য হিসেবে গৃহীত হয়।

নিচে প্রদত্ত বিকল্পগুলি থেকে সঠিক উত্তরটি বেলা কর :

- (1) (C), (D), (B), (A), (E)
- (2) (D), (B), (A), (C), (E)
- (3) (B), (D), (A), (C), (E)
- (4) (C), (A), (B), (D), (E)

Options :

212507119313 1  
212507119314 2  
212507119315 3  
212507119316 4

Question Number : 234 Question Id : 21250719929 Question Type : MCQ Option Shuffling : No Is Question Mandatory : No Calculator : None  
Response Time : N.A Think Time : N.A Minimum Instruction Time : 0

Correct Marks : 5 Wrong Marks : 1

Question Key Details :

Key	Value
Comprehension	MCQ

নীচে আপেলানে ক্রোনোলজিকল রীতে গাছবো :

- (A) মল্লীকৃত অণুগণ
- (B) অমদাঘাটমা মল্লুর অণুগণ
- (C) পারডোবী মল্লুর অণুগণ
- (D) অঁপারার অণুগণ
- (E) লাহোরমা 'পূর্ণ স্বরাজ' নে ধ্যেয তরীকি স্বীকারবামা আন্যু

নীচে আপেলা বিকল্পোমাংখী সাব্যো বিলর শোধো :

- (1) (C), (D), (B), (A), (E)
- (2) (D), (B), (A), (C), (E)
- (3) (B), (D), (A), (C), (E)
- (4) (C), (A), (B), (D), (E)

Options :

212807119313 1

212807119314 2

212807119315 3

212807119316 4

Question Number : 234 Question Id : 21280729829 Question Type : MCQ Option Shuffling : No Is Question Mandatory : No Calculator : None  
Response Time : N.A Think Time : N.A Minimum Instruction Time : 0

Correct Marks : 5 Wrong Marks : 1

Question Key Details :

Key	Value
Comprehension	MCQ

ಕೆಳಗಿನವುಗಳನ್ನು ಒಂದು ಕಾಲಾನುಕ್ರಮದ ರೀತಿಯಲ್ಲಿ ಜೋಡಿಸಿ :

- (A) ವಿಲಾಭತ್ ಚಳುವಳಿ
- (B) ಅಹ್ಮದಾಬಾದ್ ಕಾಮಿಕ್ ಚಳುವಳಿ
- (C) ದಾರ್ಜಿಲಿಂಗ್ ರೈತ ಚಳುವಳಿ
- (D) ಪಂಜಾಬ್ ಚಳುವಳಿ
- (E) ಲಾಹೋರ್‌ನಲ್ಲಿ 'ಪೂರ್ಣ ಸ್ವರಾಜ್' ಗುರಿಯೆಂದು ಒಪ್ಪಿಕೊಂಡಿದ್ದು ಕೆಳಗೆ ನೀಡಿರುವ ಆಯ್ಕೆಗಳಿಂದ ಸರಿಯಾದ ಉತ್ತರವನ್ನು ಆರಿಸಿ.

- (1) (C), (D), (B), (A), (E)
- (2) (D), (B), (A), (C), (E)
- (3) (B), (D), (A), (C), (E)
- (4) (C), (A), (B), (D), (E)

Options :

212807119313 1

212807119314 2

212807119315 3

212807119316 4

Question Number : 234 Question Id : 21280729829 Question Type : MCQ Option Shuffling : No Is Question Mandatory : No Calculator : None  
Response Time : N.A Think Time : N.A Minimum Instruction Time : 0

Correct Marks : 5 Wrong Marks : 1

Question Key Details :

Key	Value
Comprehension	MCQ

ಖಾಲಿಲಿ ಘಟನಾ ಕಾಲಾನುಕ್ರಮ ಯೋಗ್ಯ ಕ್ರಮಾನುಕ್ರಮದ ಮಂಡಿ :

- (A) ಖಿಲಾಫತ್ ಚಳುವಳಿ
- (B) ಅಹ್ಮದಾಬಾದ್ ಗಿರಣಿ ಕಾಮಗಾರಿ ಚಳುವಳಿ
- (C) ಬಾರ್ಡೋಲಿ ಯೆಥಿಲಿ ಶೇತಕನ್ಯಾ ಚಳುವಳಿ
- (D) ಚಂಪಾರನ್ ಚಳುವಳಿ
- (E) ಲಾಹೋರ್ ಯೆಥಿ 'ಪೂರ್ಣ ಸ್ವರಾಜ್ಯಾಚಿ' ಅದ್ವಿಷ್ಟ ಮಣ್ಣು ಸ್ವೀಕಾರ

ಖಾಸ್ತಿ ದಿಲೇಲ್ಯಾ ಪರ್ಯಾಯಮ್ನು ಯೋಗ್ಯ ಪರ್ಯಾಯ ನಿಕಡಾ :

- (1) (C), (D), (B), (A), (E)
- (2) (D), (B), (A), (C), (E)
- (3) (B), (D), (A), (C), (E)
- (4) (C), (A), (B), (D), (E)

Options :

212807119313 1

212807119314 2

212807119315 3

212807119316 4

Question Number : 234 Question Id : 21280729829 Question Type : MCQ Option Shuffling : No Is Question Mandatory : No Calculator : None Response Time : N.A Think Time : N.A Minimum Instruction Time : 0

Correct Marks : 5 Wrong Marks : 1

Question Key Details :

Key	Value
Comprehension	MCQ

കാലാനുഗണന അനുസരിച്ച് ക്രമീകരിക്കുക.

- (A) ഖിലരഹിതത്വ പ്രസ്ഥാനം
- (B) അഹമ്മദാബാദ് തൊഴിലാളി മുന്നേറ്റം
- (C) ബർദോളി കർഷക പ്രസ്ഥാനം
- (D) ചമ്പരൻ മുന്നേറ്റം
- (E) ലാഹോറിലെ പൂർണ്ണ സ്വരാജ് പ്രഖ്യാപനം

താഴെ തന്നിരിക്കുന്നവയിൽ നിന്നും ശരിയായ ഉത്തരം തിരഞ്ഞെടുത്ത് എഴുതുക.

- (1) (C), (D), (B), (A), (E)
- (2) (D), (B), (A), (C), (E)
- (3) (B), (D), (A), (C), (E)
- (4) (C), (A), (B), (D), (E)

Options :

212807119313 1

212807119314 2

212807119315 3

212807119316 4

Question Number : 234 Question Id : 21280729829 Question Type : MCQ Option Shuffling : No Is Question Mandatory : No Calculator : None Response Time : N.A Think Time : N.A Minimum Instruction Time : 0

Correct Marks : 5 Wrong Marks : 1

Question Key Details :

Key	Value
Comprehension	MCQ

വെള്ളമുറ വെച്ചിട്ടുണ്ട് :

- (A) ഭൂമിയിലെ ജലസ്രോതസ്സുകൾ
- (B) ജലസ്രോതസ്സുകളിലെ ജലസ്രോതസ്സുകൾ
- (C) ജലസ്രോതസ്സുകളിലെ ജലസ്രോതസ്സുകൾ
- (D) ജലസ്രോതസ്സുകളിലെ ജലസ്രോതസ്സുകൾ
- (E) 'മൂല്യ വർദ്ധന' രൂപം കൈമാറ്റം ചെയ്യുന്ന ജലസ്രോതസ്സുകൾ

നിന്നും ശരിയായ ഉത്തരം തിരഞ്ഞെടുത്ത് എഴുതുക.

- (1) (C), (D), (B), (A), (E)
- (2) (D), (B), (A), (C), (E)
- (3) (B), (D), (A), (C), (E)
- (4) (C), (A), (B), (D), (E)



Options :

212807119313 1

212807119314 2

212807119315 3

212807119316 4

Question Number : 234 Question Id : 21280729829 Question Type : MCQ Option Shuffling : No Is Question Mandatory : No Calculator : None  
Response Time : N.A Think Time : N.A Minimum Instruction Time : 0

Correct Marks : 5 Wrong Marks : 1

Question Key Details :

Key	Value
Comprehension	MCQ

కింది వాటిని కాలక్రమానుసారంగా అమర్చండి :

(A) టిలాఫుట్ ఉద్యమం

(B) అహ్మదాబాద్ కార్మికుల ఉద్యమం

(C) ఐరోపా రైతు కూలీల ఉద్యమం

(D) చంపారన్ ఉద్యమం

(E) 'సంఘర్ష సామాజ్యం' లాహోర్ వద్ద అక్షయంగా తీసుకొనబడింది

కింద ఇవ్వబడిన వికల్పాలలో సరైన సమాధానం ఎన్నుకోండి :

(1) (C), (D), (B), (A), (E)

(2) (D), (B), (A), (C), (E)

(3) (B), (D), (A), (C), (E)

(4) (C), (A), (B), (D), (E)

Options :

212807119313 1

212807119314 2

212807119315 3

212807119316 4

Question Number : 234 Question Id : 21280729829 Question Type : MCQ Option Shuffling : No Is Question Mandatory : No Calculator : None  
Response Time : N.A Think Time : N.A Minimum Instruction Time : 0

Correct Marks : 5 Wrong Marks : 1

Question Key Details :

Key	Value
Comprehension	MCQ

مندرجہ ذیل کو تاریخی اعتبار سے ترتیب دیں۔

(A) خلافت کی تحریک

(B) احمد آباد میں مزدوروں کی تحریک

(C) ہردولی میں کسان تحریک

(D) چیمپارن تحریک

(E) یورن سوڈان کو منزل کے طور پر قبول کرنا

دیئے گئے انتخابات میں دوست جواب کا انتخاب کریں۔

(1) (C), (D), (B), (A), (E)

(2) (D), (B), (A), (C), (E)

(3) (B), (D), (A), (C), (E)

(4) (C), (A), (B), (D), (E)

Options :

212807119313 1

212807119314 2

212807119315 3

212807119316 4

Question Number : 235 Question Id : 21280719830 Question Type : MCQ Option Shuffling : No Is Question Mandatory : No Calculator : None  
Response Time : N.A Think Time : N.A Minimum Instruction Time : 0

Correct Marks : 5 Wrong Marks : 1

Question Key Details :

Key	Value
Comprehension	MCQ

For constructing the history of 'Partition' which among the following can be considered as archival sources ?

(A) Memoirs

(B) Diaries

(C) Libraries

(D) Newspapers

(E) Government Reports

Choose the correct answer from the options given below :

(1) (A), (B), (C), (D) only

(2) (A), (C), (D), (E) only

(3) (A), (B), (D), (E) only

(4) (B), (C), (D), (E) only

Options :

212807119317 1

212807119318 2

212807119319 3

212807119320 4

Question Number : 135 Question Id : 11280719330 Question Type : MCQ Option Shuffling : No Is Question Mandatory : No Calculator : None  
Response Time : N.A Think Time : N.A Minimum Instruction Time : 0

Correct Marks : 5 Wrong Marks : 1

Question Key Details :

Key	Value
Comprehension	MCQ

'विभाजन' के इतिहास के निर्माण हेतु निम्न में से कौन-से पुरातात्विक आलेख इसके स्रोत होंगे ?

- (A) स्मृतिर्षी
- (B) डापरिर्षी
- (C) पुस्तकालय
- (D) समाचार पत्र
- (E) सरकारी वितरण

नीचे दिए गए विकल्पों में से सही उत्तर का चयन कीजिए :

- (1) केवल (A), (B), (C), (D)
- (2) केवल (A), (C), (D), (E)
- (3) केवल (A), (B), (D), (E)
- (4) केवल (B), (C), (D), (E)

Options :

- 112807119317 1
- 112807119318 2
- 112807119319 3
- 112807119320 4

Question Number : 135 Question Id : 11280719330 Question Type : MCQ Option Shuffling : No Is Question Mandatory : No Calculator : None  
Response Time : N.A Think Time : N.A Minimum Instruction Time : 0

Correct Marks : 5 Wrong Marks : 1

Question Key Details :

Key	Value
Comprehension	MCQ

निम्नलिखित विवरणों में से कौन-से विभाजन इतिहास निर्माण के लिए अधिक उपयोगी होंगे—

- (A) स्मृति
- (B) डापरिर्षी
- (C) पुस्तकालय
- (D) समाचार पत्र
- (E) सरकारी वितरण

तल में दिए गए विकल्पों में से सही उत्तर का चयन कीजिए :

- (1) केवल (A), (B), (C), (D)
- (2) केवल (A), (C), (D), (E)
- (3) केवल (A), (B), (D), (E)
- (4) केवल (B), (C), (D), (E)

Options :

- 112807119317 1
- 112807119318 2

212807119319-3  
212807119320-4

Question Number : 235 Question Id : 21280719830 Question Type : MCQ Option Shuffling : No Is Question Mandatory : No Calculator : None  
Response Time : N.A Think Time : N.A Minimum Instruction Time : 0

Correct Marks : 5 Wrong Marks : 1

Question Key Details :

Key	Value
Comprehension	MCQ

দেশ বিভাগের ইতিহাস রচনার জন্য নিচে প্রদত্ত কোন কোন বিষয়গুলি আবহিত্যিক নথি হিসেবে বিবেচিত হবে ?

- (A) স্মৃতি কথা
- (B) ডায়েরী
- (C) লাইব্রেরী
- (D) সংবাদপত্র
- (E) সরকারী রিপোর্ট

নিচে প্রদত্ত বিকল্পগুলি থেকে সঠিক উত্তরটি বেছে কর :

- (1) কেবলমাত্র (A), (B), (C), (D)
- (2) কেবলমাত্র (A), (C), (D), (E)
- (3) কেবলমাত্র (A), (B), (D), (E)
- (4) কেবলমাত্র (B), (C), (D), (E)

Options :

212807119319-3  
212807119319-3  
212807119319-3  
212807119320-4

Question Number : 235 Question Id : 21280719830 Question Type : MCQ Option Shuffling : No Is Question Mandatory : No Calculator : None  
Response Time : N.A Think Time : N.A Minimum Instruction Time : 0

Correct Marks : 5 Wrong Marks : 1

Question Key Details :

Key	Value
Comprehension	MCQ

ভাওয়ালী ঐতিহাস রচনায় মাতে নীচেনামাংখী উয়ানে আর্কাইভাল সোর্স (দৃশ্যীয় সাধন) গাণী সাকায় ?

- (A) স্মরণী
- (B) ডায়েরী
- (C) পুস্তকালয়
- (D) সংবাদপত্র
- (E) সরকারী অর্ধেবালী

নীচে আপেলা বিকল্পেমাংখী সাখো উত্তর শোধো :

- (1) ইক্স (A), (B), (C), (D)
- (2) ইক্স (A), (C), (D), (E)
- (3) ইক্স (A), (B), (D), (E)
- (4) ইক্স (B), (C), (D), (E)



Options :

212807119317 1

212807119318 2

212807119319 3

212807119320 4

Question Number : 235 Question Id : 21280729830 Question Type : MCQ Option Shuffling : No Is Question Mandatory : No Calculator : None  
Response Time : N.A Think Time : N.A Minimum Instruction Time : 0

Correct Marks : 5 Wrong Marks : 1

Question Key Details :

Key	Value
Comprehension	MCQ

ಇದ್ದಾಗದ ಐತಿಹಾಸವನ್ನು ರಚಿಸಲು ಕೆಳಗಿನವುಗಳಲ್ಲಿ ಯಾವುದನ್ನು ಬರಹ ಮೂಲಗಳೆಂದು ಪರಿಗಣಿಸಬಹುದು ?

(A) ಸಣ್ಣ ಆತ್ಮಕಥೆಗಳು

(B) ದಿನ-ಚರಿಗಳು

(C) ಗ್ರಂಥಾಲಯಗಳು

(D) ಸುದ್ದಿಪತ್ರಿಕೆಗಳು

(E) ಸರಕಾರದ ವರದಿಗಳು

ಕೆಳಗೆ ನೀಡಿರುವ ಆಯ್ಕೆಗಳಿಂದ ಸರಿಯಾದ ಉತ್ತರವನ್ನು ಆರಿಸಿ.

(1) (A), (B), (C), (D) only

(2) (A), (C), (D), (E) only

(3) (A), (B), (D), (E) only

(4) (B), (C), (D), (E) only

Options :

212807119317 1

212807119318 2

212807119319 3

212807119320 4

Question Number : 235 Question Id : 21280729830 Question Type : MCQ Option Shuffling : No Is Question Mandatory : No Calculator : None  
Response Time : N.A Think Time : N.A Minimum Instruction Time : 0

Correct Marks : 5 Wrong Marks : 1

Question Key Details :

Key	Value
Comprehension	MCQ

फाट्यांच्या संदर्भात इतिहास लिहिताना खालीलपैकी कशाचा अभिलेखीय साधने म्हणून विचार करता येईल?

- (A) आढवणी
- (B) अनेक दैनंदिनी
- (C) ग्रंथालये
- (D) वृत्तपत्रे
- (E) सरकारी अहवाल

खाली दिलेल्या पर्यायांमधून योग्य पर्याय निवडा :

- (1) फक्त (A), (B), (C), (D)
- (2) फक्त (A), (C), (D), (E)
- (3) फक्त (A), (B), (D), (E)
- (4) फक्त (B), (C), (D), (E)

Options :

- 212807119317 1
- 212807119318 2
- 212807119319 3
- 212807119320 4

Question Number : 335 Question Id : 21280719830 Question Type : MCQ Option Shuffling : No Is Question Mandatory : No Calculator : None  
Response Time : N.A Think Time : N.A Minimum Instruction Time : 0

Correct Marks : 5 Wrong Marks : 1

Question Key Details :

Key	Value
Comprehension	MCQ

വിഭജനകാല ചരിത്ര രചനയ്ക്ക് താഴെ തന്നിരിക്കുന്നതിൽ ഏത് ചരിത്ര രേഖ ശ്രദ്ധേയം ഉപയോഗപ്പെടുത്താം ?

- (A) ഓർമ്മക്കുറിപ്പുകൾ
- (B) ഡയറികൾ
- (C) ലൈബ്രറികൾ
- (D) ദിന പത്രങ്ങൾ
- (E) സർക്കാർ റിപ്പോർട്ടുകൾ

താഴെ തന്നിരിക്കുന്നവയിൽ നിന്നും ശരിയായ ഉത്തരം തിരഞ്ഞെടുത്ത് എഴുതുക.

- (1) (A), (B), (C), (D) മാത്രം
- (2) (A), (C), (D), (E) മാത്രം
- (3) (A), (B), (D), (E) മാത്രം
- (4) (B), (C), (D), (E) മാത്രം

Options :

- 212807119317 1
- 212807119318 2
- 212807119319 3
- 212807119320 4

Question Number : 335 Question Id : 21280719830 Question Type : MCQ Option Shuffling : No Is Question Mandatory : No Calculator : None  
Response Time : N.A Think Time : N.A Minimum Instruction Time : 0

Correct Marks : 5 Wrong Marks : 1

Question Key Details :

Key	Value
Comprehension	MCQ

ବିଭାଜନ ଭବିଷ୍ୟତ ସମ୍ଭବତଃ ଆର୍ଥିକାଳ ଗତ ହେଲା ?

- (A) ମେନୋଗ୍ରାଫ (ନଳସ୍ଥ ଭୂଅନ)
- (B) ଜାଏଣ୍ଟ
- (C) ଲାଇଟୋରା
- (D) ଉଭୟଜାଗର
- (E) ସରକାରୀ ରିପୋର୍ଟ

ନିମ୍ନରେ ଦିଆଯାଇଥିବା ବିଭିନ୍ନ ମଧ୍ୟରୁ ସର୍ବିତ୍ତ ଭବିଷ୍ୟତ ଚିହ୍ନଟ କରନ୍ତୁ ।

- (1) ଭେଦ (A), (B), (C), (D)
- (2) ଭେଦ (A), (C), (D), (E)
- (3) ଭେଦ (A), (B), (D), (E)
- (4) ଭେଦ (B), (C), (D), (E)

Options :

- 212807119317 1
- 212807119318 2
- 212807119319 3
- 212807119320 4

Question Number : 335 Question Id : 21280719930 Question Type : MCQ Option Shuffling : No Is Question Mandatory : No Calculator : None  
Response Time : N.A Think Time : N.A Minimum Instruction Time : 0

Correct Marks : 5 Wrong Marks : 1

Question Key Details :

Key	Value
Comprehension	MCQ

ਵੰਡ ਦਾ ਇਤਿਹਾਸ ਉਸਾਰਨ ਲਈ ਹੇਠ ਲਿਖਿਆਂ ਵਿਚੋਂ ਕਿਹੜਾ ਪੁਰਾਲੇਖ ਸਰੋਤ ਦੇ ਤੌਰ ਤੇ ਮੰਨਿਆ ਜਾਂਦਾ ਹੈ?

- (A) ਯਾਦਾਂ
- (B) ਡਾਇਰੀਆਂ
- (C) ਲਾਇਬ੍ਰੇਰੀਆਂ
- (D) ਅਖਬਾਰਾਂ
- (E) ਸਰਕਾਰੀ ਰਿਪੋਰਟਾਂ

ਹੇਠ ਲਿਖਿਆਂ ਵਿਕਲਪਾਂ ਵਿੱਚ ਸਹੀ ਉੱਤਰ ਦੀ ਚੋਣ ਕਰੋ :

- (1) ਸਿਰਫ (A), (B), (C), (D)
- (2) ਸਿਰਫ (A), (C), (D), (E)
- (3) ਸਿਰਫ (A), (B), (D), (E)
- (4) ਸਿਰਫ (B), (C), (D), (E)

Options :

- 212807119317 1
- 212807119318 2
- 212807119319 3

212807119320-4

Question Number : 235 Question Id : 21280719830 Question Type : MCQ Option Shuffling : No Is Question Mandatory : No Calculator : None  
Response Time : N.A Think Time : N.A Minimum Instruction Time : 0

Correct Marks : 5 Wrong Marks : 1

Question Key Details :

Key	Value
Comprehension	MCQ

பிரிவினை வரலாற்றை அமைப்பதற்கான ஆவணங்களாக எவற்றைக் கருதலாம்.

- (A) நினைவுகள்
- (B) நாட் குறிப்பேடுகள்
- (C) நூலகங்கள்
- (D) நாளேடுகள்
- (E) அரசின் அறிக்கைகள்

கீழ்க்காண்பதில் சரியான விடையைத் தேர்ந்தெடுக்கவும் :

- (1) (A), (B), (C), (D) மட்டும்
- (2) (A), (C), (D), (E) மட்டும்
- (3) (A), (B), (D), (E) மட்டும்
- (4) (B), (C), (D), (E) மட்டும்

Options :

212807119317-3

212807119318-3

212807119319-3

212807119320-4

Question Number : 235 Question Id : 21280719830 Question Type : MCQ Option Shuffling : No Is Question Mandatory : No Calculator : None  
Response Time : N.A Think Time : N.A Minimum Instruction Time : 0

Correct Marks : 5 Wrong Marks : 1

Question Key Details :

Key	Value
Comprehension	MCQ

విభజన చరిత్ర ఏర్పర్చడానికి కింది వాటిలో ఏ భద్రపరచబడిన మూలాలు తీసుకొనబడ్డాయి.

- (A) జ్ఞాపకాలు
- (B) డైరీలు
- (C) గ్రంథాలయాలు
- (D) వార్తా పత్రికలు
- (E) గవర్నమెంట్ రిపోర్టులు

కింద ఇవ్వబడిన ఏకల్పాలలో సరైన సమాధానం ఎన్నుకోండి :

- (1) (A), (B), (C), (D) మాత్రమే
- (2) (A), (C), (D), (E) మాత్రమే
- (3) (A), (B), (D), (E) మాత్రమే
- (4) (B), (C), (D), (E) మాత్రమే

Options :

- 212807119319 1
- 212807119319 2
- 212807119319 3
- 212807119320 4

Question Number : 235 Question Id : 21280719830 Question Type : MCQ Option Shuffling : No Is Question Mandatory : No Calculator : None

Response Time : N.A Think Time : N.A Minimum Instruction Time : 0

Correct Marks : 5 Wrong Marks : 1

Question Key Details :

Key	Value
Comprehension	MCQ

تقسیم کی تاریخ کو لکھنے کے واسطے مندرجہ ذیل میں کون سے دستاویزی ذخائر کے اہم ہیں۔

(Memoirs) مکتوبات رسالہ (A)

(Diaries) ڈائریز (B)

(Libraries) لائبریری (C)

(Newspapers) اخبارات (D)

(Government Reports) سرکاری رپورٹ (E)

نیچے دیئے گئے انتخاب میں سے درست جواب کا انتخاب کریں۔

صرف (A), (B), (C), (D) (1)

صرف (A), (C), (D), (E) (2)

صرف (A), (B), (D), (E) (3)

صرف (B), (C), (D), (E) (4)

Options :

212807119317.1  
212807119318.2  
212807119319.3  
212807119320.4

Question Number : 236 Question Id : 21280719831 Question Type : MCQ Option Shuffling : No Is Question Mandatory : No Calculator : None  
Response Time : N.A Think Time : N.A Minimum Instruction Time : 0

Correct Marks : 5 Wrong Marks : 1

Question Key Details :

Key	Value
Comprehension	MCQ

"Separate electorates was a poison that has entered the body politics of our country." Whose words are these ?

- (1) Govind Ballabh Pant
- (2) Vallabhbhai Patel
- (3) B. Pocker Bahadur
- (4) N.G. Ranga

Options :

212807119321.1  
212807119322.2  
212807119323.3  
212807119324.4

Question Number : 236 Question Id : 21280719831 Question Type : MCQ Option Shuffling : No Is Question Mandatory : No Calculator : None  
Response Time : N.A Think Time : N.A Minimum Instruction Time : 0

Correct Marks : 5 Wrong Marks : 1

Question Key Details :

Key	Value
Comprehension	MCQ

"पृथक् निर्वाचिका एक ज़हर है जो हमारे देश के राजनैतिक शरीर में प्रवेश कर चुका है।" यह शब्द किसके हैं ?

- (1) गोविन्द बल्लभ पंत
- (2) बल्लभभाई पटेल
- (3) बी. पीकर बहादुर
- (4) एन. जी. रंगा

Options :

212807119321.1  
212807119322.2  
212807119323.3  
212807119324.4

Question Number : 236 Question Id : 21280719831 Question Type : MCQ Option Shuffling : No Is Question Mandatory : No Calculator : None  
Response Time : N.A Think Time : N.A Minimum Instruction Time : 0

Correct Marks : 5 Wrong Marks : 1

Question Key Details :

Key	Value
Comprehension	MCQ

"পৃথক ইলেক্টরেট আছিল আমাৰ দেশৰ ৰাজনীতিৰ শৰীৰত থকা এক বিষ"—এয়া কাৰ ভাষ্য আছিল ?

- (1) গোবিন্দ বল্লভ পন্ত
- (2) চৰ্দাঁৰ বল্লভভাই পেটেল
- (3) বি. পোকাৰ বাদাধুৰ
- (4) এন. জি. বংগা

Options :

- 212807119321 1
- 212807119322 2
- 212807119323 3
- 212807119324 4

Question Number : 234 Question Id : 21280729831 Question Type : MCQ Option Shuffling : No Is Question Mandatory : No Calculator : None  
Response Time : N.A Think Time : N.A Minimum Instruction Time : 0

Correct Marks : 5 Wrong Marks : 1

Question Key Details :

Key	Value
Comprehension	MCQ

“পৃথক নির্বাচিত মন্তব্য ছিল বিয় বা আমাদের দেশের রাজনীতিতে অনুপ্রবেশ হয়েছে” কার উক্তি ?

- (1) গোবিন্দ বল্লাভ পন্থ
- (2) সর্দার বল্লাভভাই প্যাটেল
- (3) বি. পকার কহাদুর
- (4) এন. জি. রঙ্গ

Options :

- 212807119321 1
- 212807119322 2
- 212807119323 3
- 212807119324 4

Question Number : 236 Question Id : 21280729831 Question Type : MCQ Option Shuffling : No Is Question Mandatory : No Calculator : None  
Response Time : N.A Think Time : N.A Minimum Instruction Time : 0

Correct Marks : 5 Wrong Marks : 1

Question Key Details :

Key	Value
Comprehension	MCQ

“অলস মতদাহভাঙণী যে জেত হতু কে নে আশ্রয় দেয়না সর্দারনা রাজকাজেমা ধুস্ব্যো ছে.” আ কোনা রান্দী ছে ?

- (1) গোবিন্দ বল্লাভ পন্থ
- (2) বল্লাভভাই প্যাটেল
- (3) পী. পোক্তর অহাছর
- (4) মেন.প্র. রংগা

Options :

- 212807119321 1
- 212807119322 2
- 212807119323 3
- 212807119324 4

Question Number : 238 Question Id : 21280729831 Question Type : MCQ Option Shuffling : No Is Question Mandatory : No Calculator : None  
Response Time : N.A Think Time : N.A Minimum Instruction Time : 0

Correct Marks : 5 Wrong Marks : 1

Question Key Details :

Key	Value
Comprehension	MCQ

ಸಮ್ಮ ದೇಶದ ರಾಜಕೀಯಕ್ಕೆ ಪ್ರವೇಶಿಸಿರುವ ಪ್ರತ್ಯೇಕ ಮತದಾರರು ಒಂದು ವಿಷಯವಿದುಗಾಗಿ ಈ ಮಾತುಗಳು ಯಾರದ್ದು ?

- (1) ಗೋವಿಂದ ವಲ್ಲಭ ಪಂಚ
- (2) ವಲ್ಲಭಪಾಂಚ್ ಪಟೀಲ್
- (3) ಬಿ.ಪೋಕರ್ ಬಹದೂರ
- (4) ಎನ್.ಪಿ.ರಂಗ

Options :

- 212807119321 1  
212807119322 2  
212807119323 3  
212807119324 4

Question Number : 335 Question Id : 21280719831 Question Type : MCQ Option Shuffling : No Is Question Mandatory : No Calculator : None  
Response Time : N.A Think Time : N.A Minimum Instruction Time : 0

Correct Marks : 5 Wrong Marks : 1

Question Key Details :

Key	Value
Comprehension	MCQ

“ आपल्या देशाच्या राजकारणात स्वतंत्र मतदारसंघ या विधाने चंचू प्रवेश केला आहे ” हे कोणाचे उद्गार आहेत ?

- (1) गोविंद विल्लभ पंत
- (2) वल्लभभाई पटेल
- (3) बी. पोकर बहादूर
- (4) एन.जी. रंगा

Options :

- 212807119321 1  
212807119322 2  
212807119323 3  
212807119324 4

Question Number : 336 Question Id : 21280719831 Question Type : MCQ Option Shuffling : No Is Question Mandatory : No Calculator : None  
Response Time : N.A Think Time : N.A Minimum Instruction Time : 0

Correct Marks : 5 Wrong Marks : 1

Question Key Details :

Key	Value
Comprehension	MCQ

“പ്രത്യേക തിരഞ്ഞെടുപ്പ് മണ്ഡലങ്ങൾ എന്ന ആശയം രാജ്യത്തിന്റെ ശരീരത്തിൽ കടന്നു കൂടിയ വീക്ഷമാണ് ” ആര് പറഞ്ഞു ?

- (1) ഗോവിന്ദ് വല്ലഭ് പന്ത്
- (2) സർദാർ വല്ലഭായ് പട്ടേൽ
- (3) B. പോക്കർ ബഹദൂർ
- (4) N.G. രಂಗ

Options :

- 212807119321 1  
212807119322 2  
212807119323 3  
212807119324 4

Question Number : 336 Question Id : 21280719831 Question Type : MCQ Option Shuffling : No Is Question Mandatory : No Calculator : None  
Response Time : N.A Think Time : N.A Minimum Instruction Time : 0

Correct Marks : 5 Wrong Marks : 1

Question Key Details :



Key	Value
Comprehension	MCQ

ଶି-୧ ଭେଣ୍ଟୁରେ "ପୃଥକ ଭୋଜନଶୈଳୀରେ ଭାଗ୍ୟରେ ଗାଳନାଟି ପଢ଼ା ପାଇଁ ଦିଏ ଅଟେ" ।

- (1) ଗୋଟିଏ ବନ୍ଧୁର ପଞ୍ଜ
- (2) ସରକାର ବନ୍ଧୁଗଣଙ୍କ ପଚେନ
- (3) ବି. ଘୋଷର ଗାଥାପୁର
- (4) ଏନ.ସି. ଗୋ

Options :

- 212807119321-1  
212807119322-2  
212807119323-3  
212807119324-4

Question Number : 236 Question Id : 21280719331 Question Type : MCQ Option Shuffling : No Is Question Mandatory : No Calculator : None  
Response Time : N.A Think Time : N.A Minimum Instruction Time : 0

Correct Marks : 5 Wrong Marks : 1

Question Key Details :

Key	Value
Comprehension	MCQ

"ବିଧିରେ ଚିଟକାଠ ଥିବ ଯାହା ମି, ଯିହା ମାଡ଼ି ଦେଖି ଚି ଗାଳନୀତୀ ଦେ ଯାହା ବିଧି ଦାଖଲ ହେଉଛି ।" ଥିବ ଯାହା ବିଧି ଦେ ଯାହା ?

- (1) ଗୋଟିଏ ବନ୍ଧୁର ପଞ୍ଜ
- (2) ସରକାର ବନ୍ଧୁଗଣଙ୍କ ପଚେନ
- (3) ବି. ଘୋଷର ଗାଥାପୁର
- (4) ଏନ.ସି. ଗୋ

Options :

- 212807119321-1  
212807119322-2  
212807119323-3  
212807119324-4

Question Number : 236 Question Id : 21280719331 Question Type : MCQ Option Shuffling : No Is Question Mandatory : No Calculator : None  
Response Time : N.A Think Time : N.A Minimum Instruction Time : 0

Correct Marks : 5 Wrong Marks : 1

Question Key Details :

Key	Value
Comprehension	MCQ

"ତନ୍ତ୍ରୀୟାଣ ଘାଟକାଣାଃ ତୋତ୍ରୁତି ଶ୍ରେଣି ଶିକ୍ଷା ଓ ନୂଆଁଦିନ ଅରାଧ୍ୟାୟ ଅନ୍ୟାୟରେ କଲନ୍ତୁ ଶିକ୍ଷା" - ଥିବ ଯାହା ବିଧି ଦାଖଲ ହେଉଛି ?

- (1) ଗୋଟିଏ ବନ୍ଧୁର ପଞ୍ଜ
- (2) ସରକାର ବନ୍ଧୁଗଣଙ୍କ ପଚେନ
- (3) ବି. ଘୋଷର ଗାଥାପୁର
- (4) ଏନ.ସି. ଗୋ

Options :

- 212807119321-1  
212807119322-2  
212807119323-3  
212807119324-4

Question Number : 236 Question Id : 21280719331 Question Type : MCQ Option Shuffling : No Is Question Mandatory : No Calculator : None  
Response Time : N.A Think Time : N.A Minimum Instruction Time : 0

Correct Marks : 5 Wrong Marks : 1

Question Key Details :

Key	Value
Comprehension	MCQ

“పేరు నియామకాలు మన దేశ రాజకీయ వ్యవస్థలోకి ప్రవేశించిన విషయం” అని ఎవరు అన్నారు ?

- (1) గోపింద్ బల్లభ్ పంత్
- (2) సర్దార్ వల్లభాయి పటేల్
- (3) బి. పోకర్ బహదూర్
- (4) ఎన్.జి. రంగ

Options :

21280719331 1

21280719332 2

21280719333 3

21280719334 4

Question Number : 236 Question Id : 21280719831 Question Type : MCQ Option Shuffling : No Is Question Mandatory : No Calculator : None  
Response Time : N.A Think Time : N.A Minimum Instruction Time : 0

Correct Marks : 5 Wrong Marks : 1

Question Key Details :

Key	Value
Comprehension	MCQ

“الگ علیحدہ انتخاب ایک زہر تھا جو ہمارے ملک کی سیاست میں داخل ہو گیا تھا” کس کے الفاظ ہیں۔

- (1) گووند بھلب پنت (Govind Ballabh Pant)
- (2) سرداروالہ بھائی پٹیل (Sardar Vallabhbhai Patel)
- (3) بی. پاکر بھادور (B. Pocker Bahadur)
- (4) این. جی. رانگا (N.G. Ranga)

Options :

21280719331 1

21280719332 2

21280719333 3

21280719334 4

Question Number : 237 Question Id : 21280719832 Question Type : MCQ Option Shuffling : No Is Question Mandatory : No Calculator : None  
Response Time : N.A Think Time : N.A Minimum Instruction Time : 0

Correct Marks : 5 Wrong Marks : 1

Question Key Details :

Key	Value
Comprehension	MCQ

Who amongst the following made a plea for separate electorates for minorities ?

- (1) B. Pocker Bahadur
- (2) Govind Ballabh Pant
- (3) R.V. Dhulekar
- (4) Vallabhbhai Patel

Options :

212507119325 : 1  
212507119326 : 2  
212507119327 : 3  
212507119328 : 4

Question Number : 237 Question Id : 21250719332 Question Type : MCQ Option Shuffling : No Is Question Mandatory : No Calculator : None  
Response Time : N.A Think Time : N.A Minimum Instruction Time : 0

Correct Marks : 5 Wrong Marks : 1

Question Key Details :

Key	Value
Comprehension	MCQ

निम्न में से किसने अल्पसंख्यकों हेतु पुथक निर्वाचिका की अपील की थी ?

- (1) श्री. पोंकर बहादुर
- (2) गोविन्द बल्लभ पंत
- (3) आर. वी. धुलेकर
- (4) बल्लभभाई फटेल

Options :

212507119325 : 1  
212507119326 : 2  
212507119327 : 3  
212507119328 : 4

Question Number : 237 Question Id : 21250719332 Question Type : MCQ Option Shuffling : No Is Question Mandatory : No Calculator : None  
Response Time : N.A Think Time : N.A Minimum Instruction Time : 0

Correct Marks : 5 Wrong Marks : 1

Question Key Details :

Key	Value
Comprehension	MCQ

তলত উল্লেখ কৰা সকলৰ ভিতৰত কোনে সংখ্যালঘুৰ বাবে পৃথক ভোটাভাৰ বাবে আবেদন জনাইছিল ?

- (1) শ্ৰী. পোকাৰ বাহাদূৰ
- (2) গোবিন্দ বল্লভ পন্ত
- (3) আৰ. বি. ধুলেকাৰ
- (4) চৰ্দাৰ বল্লভভাই ফটেল

Options :

212507119325 : 1  
212507119326 : 2  
212507119327 : 3  
212507119328 : 4

Question Number : 237 Question Id : 21250719332 Question Type : MCQ Option Shuffling : No Is Question Mandatory : No Calculator : None  
Response Time : N.A Think Time : N.A Minimum Instruction Time : 0

Correct Marks : 5 Wrong Marks : 1

Question Key Details :

Key	Value
Comprehension	MCQ

ಸಂಖ್ಯಾಲಕ್ಷ್ಮೀಯರ ಜನಾ ನಾಶ ಉದ್ದೇಶಿಸಿದ ಕೊನೆಯ ವ್ಯಕ್ತಿ ಪುಸ್ತಕ ನಿರ್ಮಾಪಕ ಮಂಜುನಿ ತೇಜವರ ಜನಾ ಆವೇಶನ ಕರೆದಿದ್ದಾರೆ ?

- (1) ಬಿ. ಪಟಾಕಿ ಕಾಡು
- (2) ಗೋವಿಂದ ವಜ್ರಪತಿ
- (3) ಅನಾ. ಬಿ. ಭುಲಕರ
- (4) ಸರ್ಕಾರಿ ವಜ್ರಪತಿ ಡಿ. ಪಾಟೀಲ

Options :

- 212807119325 1  
212807119326 2  
212807119327 3  
212807119328 4

Question Number : 237 Question Id : 21280719532 Question Type : MCQ Option Shuffling : No Is Question Mandatory : No Calculator : None  
Response Time : N.A Think Time : N.A Minimum Instruction Time : 0

Correct Marks : 5 Wrong Marks : 1

Question Key Details :

Key	Value
Comprehension	MCQ

ನೀಚಿನವರಲ್ಲಿ ಕೊಲೆ ಉದ್ದೇಶಿಸಿ ಮರಣ ದಂಡವನ್ನು ಅಂತಿಮ ಕರೆದಿದ್ದಾರೆ ?

- (1) ಬಿ. ಪಟಾಕಿ ಕಾಡು
- (2) ಗೋವಿಂದ ವಜ್ರಪತಿ
- (3) ಅನಾ. ಬಿ. ಭುಲಕರ
- (4) ವಜ್ರಪತಿ ಡಿ. ಪಟೀಲ

Options :

- 212807119325 1  
212807119326 2  
212807119327 3  
212807119328 4

Question Number : 237 Question Id : 21280719532 Question Type : MCQ Option Shuffling : No Is Question Mandatory : No Calculator : None  
Response Time : N.A Think Time : N.A Minimum Instruction Time : 0

Correct Marks : 5 Wrong Marks : 1

Question Key Details :

Key	Value
Comprehension	MCQ

ಕೆಳಗಿನವುಗಳಲ್ಲಿ ಯಾರು ಅಲ್ಪ ಸಂಖ್ಯಾತರಿಗೆ ಪ್ರತ್ಯಕ್ಷ ಮತದಾರರ ಬೇಡಿಕೆ-ಯನ್ನುಟ್ಟರು ?

- (1) ಬಿ. ಪಟಾಕಿ ಕಾಡು
- (2) ಗೋವಿಂದ ವಜ್ರಪತಿ
- (3) ಅನಾ. ಬಿ. ಭುಲಕರ
- (4) ವಜ್ರಪತಿ ಡಿ. ಪಟೀಲ

Options :

- 212807119325 1  
212807119326 2  
212807119327 3  
212807119328 4

Question Number : 237 Question Id : 21280719532 Question Type : MCQ Option Shuffling : No Is Question Mandatory : No Calculator : None  
Response Time : N.A Think Time : N.A Minimum Instruction Time : 0

Correct Marks : 5 Wrong Marks : 1

Question Key Details :

Key	Value
-----	-------

अल्पसंख्याकांना स्वतंत्र मतदार संघाच्या मागणीची विनंती खालील पैकी कोणी केली ?

- (1) बी. पोकर बहादूर
- (2) गोविंद वल्लभ पंत
- (3) आर. व्ही. धुळेकर
- (4) वल्लभभाई पटेल

Options :

212807119325 : 1

212807119326 : 2

212807119327 : 3

212807119328 : 4

Question Number : 23\* Question Id : 21280719832 Question Type : MCQ Option Shuffling : No Is Question Mandatory : No Calculator : None  
Response Time : N.A Think Time : N.A Minimum Instruction Time : 0

Correct Marks : 5 Wrong Marks : 1

Question Key Details :

Key	Value
Comprehension	MCQ

താഴെ തന്നിരിക്കുന്നതിൽ ആരെല്ലാമാണ് സുന്നപക്ഷങ്ങൾക്ക് പ്രത്യേക ഇടയ്ക്കുവേണ്ടി വേണം എന്ന് അപേക്ഷിച്ചത് ?

- (1) B. പോക്കർ ബഹാദൂർ
- (2) ഗോവിന്ദ് വല്ലഭ് പന്ത്
- (3) R.V. ഡുൽക്കർ
- (4) സർദാർ വല്ലഭായ് പട്ടേൽ

Options :

212807119325 : 1

212807119326 : 2

212807119327 : 3

212807119328 : 4

Question Number : 23\* Question Id : 21280719832 Question Type : MCQ Option Shuffling : No Is Question Mandatory : No Calculator : None  
Response Time : N.A Think Time : N.A Minimum Instruction Time : 0

Correct Marks : 5 Wrong Marks : 1

Question Key Details :

Key	Value
Comprehension	MCQ

ନିମ୍ନଲିଖିତ ବ୍ୟക്ତିମାନଙ୍କ ମଧ୍ୟରୁ କିଏ ଇନ୍ଦୁ ଗୋଷ୍ଠୀମାନଙ୍କ ପାଇଁ ପୂର୍ଣ୍ଣ ଇନକ୍ଲୁସିଭ୍ ରାଜ୍ କରିଥିଲେ ?

- (1) ବି. ଯୋଜର ରାହାବୁର
- (2) ଗୋବିନ୍ଦ ବଲ୍ଲଭ ପଟ୍ଟ
- (3) ଅର.ଭି. ଧୁଲେକର
- (4) ସରଦାର ବଲ୍ଲଭଭାଇ ପଟେଲ

Options :

212807119325 : 1

212807119326 : 2

212807119327 : 3

212807119328 : 4

Question Number : 23\* Question Id : 21280719832 Question Type : MCQ Option Shuffling : No Is Question Mandatory : No Calculator : None  
Response Time : N.A Think Time : N.A Minimum Instruction Time : 0

Correct Marks : 5 Wrong Marks : 1

Question Key Details :

Key	Value
Comprehension	MCQ

ਹੇਠ ਲਿਖਿਆਂ ਵਿਚੋਂ ਕਿਸਨੇ ਘੱਟ ਗਿਣਤੀਆਂ ਲਈ ਵੱਖਰੇ ਚੋਣਕਾਰ ਦੀ ਬੇਨਤੀ ਕੀਤੀ?

- (1) ਬੀ. ਪਾਰਕ ਬਹਾਦਰ
- (2) ਗੋਵਿੰਦ ਬੱਲਬ ਪੰਤ
- (3) ਆਰ.ਵੀ. ਪੁਲੋਕਰ
- (4) ਸਰਦਾਰ ਵੱਲਭ ਭਾਈ ਪਟੇਲ

Options :

212807119325 1

212807119326 2

212807119327 3

212807119328 4

Question Number : 33\* Question Id : 21280719832 Question Type : MCQ Option Shuffling : No Is Question Mandatory : No Calculator : None  
Response Time : N.A Think Time : N.A Minimum Instruction Time : 0

Correct Marks : 5 Wrong Marks : 1

Question Key Details :

Key	Value
Comprehension	MCQ

ਸ਼ਿਰੁਪਾਨੰਮਾਯੀਨਰੁਕਕਾਨਾ ਤਨੀਤਿ ਤੋਰਾਕੁਤੀ ਕੋਗੀਕੰਕਾ ਮੁਨੰਨਾਵਤੰਤੁ ਯਾਗ ?

- (1) ਪੀ. ਪੋਕੱਕਾ ਪਠੁਠੁਠਾਗ
- (2) ਕੋਲੀਨੰਤ ਪਲੱਲਾਪ ਪਨੰਤ
- (3) ਆਰ.ਵੀ. ਤੁਲੋਕਾ
- (4) ਸੰਗਾਗ ਵਲੱਲਪਪਾਯ ਪੱਠੋਠ

Options :

212807119325 1

212807119326 2

212807119327 3

212807119328 4

Question Number : 33\* Question Id : 21280729833 Question Type : MCQ Option Shuffling : No Is Question Mandatory : No Calculator : None  
Response Time : N.A Think Time : N.A Minimum Instruction Time : 0

Correct Marks : 5 Wrong Marks : 1

Question Key Details :

Key	Value
Comprehension	MCQ

ਮੁੈਰਾਠੀਲ ਕੋਰਕੁ ਵੇਰੇ ਵਨੁਕਲ ਅਠੀਠਿ ਵਪਰੁ ਪੇਠੁਰੁ ?

- (1) ਈ. ਪੋਕੱਕਾ ਈਠਾਠਾਠ
- (2) ਗੋਵਿੰਦ ਈਠੁਠੁ ਵੰਠੁਠ
- (3) ਆਰ. ਵੀ. ਠੁਠੇਕੱਕ
- (4) ਸਰਾਠ ਵਲੁਠਾਠਾ ਵਠੀਠ

Options :

212807119325 1

212807119326 2

212807119327 3

212807119328\_4

Question Number : 237 Question Id : 21280719832 Question Type : MCQ Option Shuffling : No Is Question Mandatory : No Calculator : None  
Response Time : N.A Think Time : N.A Minimum Instruction Time : 0

Correct Marks : 5 Wrong Marks : 1

Question Key Details :

Key	Value
Comprehension	MCQ

اقلیتوں کے لئے الگ علیحدہ انتخاب کی مانگ ان میں سے کس نے کی تھی۔

- (1) بی پانکر بہادر
- (2) گووند بھند پتے
- (3) آرومی دھونڈکر
- (4) سردار اولہ بھائی پٹیل

Options :

212807119325\_1

212807119326\_2

212807119327\_3

212807119328\_4

Question Number : 238 Question Id : 21280719833 Question Type : MCQ Option Shuffling : No Is Question Mandatory : No Calculator : None  
Response Time : N.A Think Time : N.A Minimum Instruction Time : 0

Correct Marks : 5 Wrong Marks : 1

Question Key Details :

Key	Value
Comprehension	MCQ

The resolution that the National flag of India be a "horizontal tricolour of saffron, white and dark green in equal proportion" with a wheel in navy blue in the centre, was proposed in the Constituent Assembly by one of the following leaders. Choose the correct answer.

- (1) Jawaharlal Nehru
- (2) Vallabhbhai Patel
- (3) Rajendra Prasad
- (4) Alladi Krishnaswami Aiyar

Options :

212807119329\_1

212807119330\_2

212807119331\_3

212807119333\_4

Question Number : 238 Question Id : 21280719833 Question Type : MCQ Option Shuffling : No Is Question Mandatory : No Calculator : None  
Response Time : N.A Think Time : N.A Minimum Instruction Time : 0

Correct Marks : 5 Wrong Marks : 1

Question Key Details :

Key	Value
Comprehension	MCQ

निम्न में से कौन-से नेता ने भारत के राष्ट्रीय ध्वज की परिकल्पना "क्षैतिज तीन रंगों केसरिया, सफेद और गहरे हरे एक समान अनुपात में" तथा केन्द्र में आसमानी नीले रंग का चक्र के रूप में प्रस्तावित किया। सही उत्तर चुनिए।

- (1) जवाहरलाल नेहरू
- (2) बल्लभभाई पटेल
- (3) राजेन्द्र प्रसाद
- (4) अल्लादि कृष्णास्वामी अय्यर

Options :

- 212807119329 1  
212807119330 2  
212807119331 3  
212807119332 4

Question Number : 238 Question Id : 21280729833 Question Type : MCQ Option Shuffling : No Is Question Mandatory : No Calculator : None  
Response Time : N.A Think Time : N.A Minimum Instruction Time : 0

Correct Marks : 5 Wrong Marks : 1

Question Key Details :

Key	Value
Comprehension	MCQ

भारतव राष्ट्रीय पताकाब "पथालिके तिन बर गेरना, बग्या आक सेउक्याय बर समान अबरुवात धाकिल" आक एटि नीला बरुव चक्र माकत हई। सांविधानिक सभात केने एई प्रस्ताव बागिछिल ?

- (1) जवाहरलाल नेहरू
- (2) बल्लभभाई पटेल
- (3) राजेन्द्र प्रसाद
- (4) अल्लादि कृष्णास्वामी अय्यर

Options :

- 212807119329 1  
212807119330 2  
212807119331 3  
212807119332 4

Question Number : 238 Question Id : 21280729833 Question Type : MCQ Option Shuffling : No Is Question Mandatory : No Calculator : None  
Response Time : N.A Think Time : N.A Minimum Instruction Time : 0

Correct Marks : 5 Wrong Marks : 1

Question Key Details :

Key	Value
Comprehension	MCQ

निचेर केन नेता कर्तुक गण परिषदे भारतेर जातीय पताकाय एमन एकटि प्रस्ताव पेश करा हयेछिल ये "गेरना, सार्दा ओ गाछ सबुज एई तिन बरु अनुकुमिक समान अंशे থাকवे, मानाथाने गाछ नील चक्र থাকवे।

सठिक उत्तरति बेछेनाओ ?

- (1) जवाहरलाल नेहरू
- (2) सर्दार बल्लभभाई पटेल
- (3) राजेन्द्र प्रसाद
- (4) अल्लादि कृष्णास्वामी अय्यर

Options :

- 212807119329 1  
212807119330 2  
212807119331 3



212807119332\_4

Question Number : 238 Question Id : 21280719833 Question Type : MCQ Option Shuffling : No Is Question Mandatory : No Calculator : None  
Response Time : N.A Think Time : N.A Minimum Instruction Time : 0

Correct Marks : 5 Wrong Marks : 1

Question Key Details :

Key	Value
Comprehension	MCQ

ભારતનો રાષ્ટ્રધ્વજ લે "સમાન પ્રમાણમાં સફેદ અને ઘેરા લીલા રંગનો હોરીઝન્ટલ ત્રીરંગો" જેના મધ્યમાં નેવી બ્લુ રંગની ચક્ર સાથે હોય તે દરમિયાન નીચેનામાંથી ક નેતાએ સંવિધાન સભામાં પ્રસ્તાવિત કર્યો હતો. સાચો ઉત્તર પસંદ કરો.

- (1) જવાહરલાલ નહેરુ
- (2) વજીરખાન પટેલ
- (3) રાજેન્દ્ર પ્રસાદ
- (4) અજાદી કમિશનરવામી ચૌધર

Options :

212807119332\_1

212807119333\_2

212807119331\_3

212807119332\_4

Question Number : 238 Question Id : 21280719833 Question Type : MCQ Option Shuffling : No Is Question Mandatory : No Calculator : None  
Response Time : N.A Think Time : N.A Minimum Instruction Time : 0

Correct Marks : 5 Wrong Marks : 1

Question Key Details :

Key	Value
Comprehension	MCQ

ધારણે રાજ્ય ધ્વજનું ડાબું "સમ અનુપાતમાં ત્રિવર્ણવર્ણવ ક્રમમાં, બેલ મુખ્ય ગાઢ ઘસિયું સમસાંકર વર્ણવ" યોજી યુદ્ધમાં નૌકા નિલયી યજી ઘરવેલુ. યવ્ય નિર્ણયવનું પ્રાકૃતિક સ્થંભી પ્રકૃષ્ટવડીસલ્લક્ષ્મી કલ્પિત ડબ્બુ નાંબીકરિંવ સરિયાર યાજીવનું અરિઃ

- (1) ડવઘારલોલ નેઘરુ
- (2) વજીરખાન પટેલ
- (3) રાજેન્દ્ર પ્રસાદ
- (4) અજાદી કમિશનરવામી ચૌધર

Options :

212807119332\_1

212807119333\_2

212807119331\_3

212807119332\_4

Question Number : 238 Question Id : 21280719833 Question Type : MCQ Option Shuffling : No Is Question Mandatory : No Calculator : None  
Response Time : N.A Think Time : N.A Minimum Instruction Time : 0

Correct Marks : 5 Wrong Marks : 1

Question Key Details :

Key	Value
Comprehension	MCQ

खालील पैकी एका नेत्याने सविधान सभेत भारताचा राष्ट्रीय ध्वज “केशरी, पांढरा व गडद हिरवा रंग समप्रमाणात असणारा त्रिकोण असावा, त्यात मध्यभागी निळ्या रंगात अलोक चक्र असावे” असा ठराव मांडला. योग्य उत्तर निवडा.

- (1) जवाहर लाल नेहरू
- (2) बल्लभभाई पटेल
- (3) राजेंद्र प्रसाद
- (4) अलादी कृष्णस्वामी अय्यर

Options :  
 212807119329 1  
 212807119330 2  
 212807119331 3  
 212807119332 4

Question Number : 235 Question Id : 21280719533 Question Type : MCQ Option Shuffling : No Is Question Mandatory : No Calculator : None  
 Response Time : N.A Think Time : N.A Minimum Instruction Time : 0  
 Correct Marks : 5 Wrong Marks : 1

Question Key Details :

Key	Value
Comprehension	MCQ

അന്യരായ പലരും തിരഞ്ഞെടുക്കുന്നതുമായി ബന്ധപ്പെട്ട നിർദ്ദേശം നിയമസഭയിൽ അവതരിപ്പിച്ചതാൽ, ആനുപാതികമായി സാമ്പ്രദേശം വെള്ളയും കടുംപച്ചയും നടുക്ക് നീല നിറത്തിലുള്ള ചക്രവും നിർദ്ദേശിക്കുകയും ചെയ്തത് ?

- (1) ജവഹർ ലാൽ നെഹ്റു
- (2) സർദാർ വല്ലഭായ് പട്ടേൽ
- (3) രാജേന്ദ്ര പ്രസാദ്
- (4) അല്ലാഹി കൃഷ്ണസ്വാമി അയ്യർ

Options :  
 212807119329 1  
 212807119330 2  
 212807119331 3  
 212807119332 4

Question Number : 238 Question Id : 21280719833 Question Type : MCQ Option Shuffling : No Is Question Mandatory : No Calculator : None  
 Response Time : N.A Think Time : N.A Minimum Instruction Time : 0  
 Correct Marks : 5 Wrong Marks : 1

Question Key Details :

Key	Value
Comprehension	MCQ

କିମ୍ପୁରିସ୍ତ୍ର ମଧ୍ୟରୁ କେଉଁ ବ୍ୟକ୍ତି ଜଣକ ଭାରତର ସମ୍ବିଧାନ ସଭାରେ ଭାରତର ଚାଷୀ ଧୂଳି “ଭୂସମାଜର ଚିହ୍ନିକ ଯୁଗ ସଥା-କେଶରୀ, ଶ୍ଵେତ ଏବଂ ଉଜ୍ଜ୍ଵଳ ସବୁଜ ସମାନ ମାତ୍ରାରେ” ଏବଂ କେନ୍ଦ୍ରରେ ଏକ ନୀଳ ରଙ୍ଗର ଚକ୍ର ପ୍ରସ୍ତାବ ଦେଇଥିଲେ । ସଠିକ୍ ଭାବରେ ବାଛିନ୍ତୁ ।

- (1) ଜବାହର ଲାଲ ନେହେରୁ
- (2) ସର୍ଦ୍ଦାର ବଲ୍ଲଭଭାଇ ପଟେଲ
- (3) ରାଜେନ୍ଦ୍ର ପ୍ରସାଦ
- (4) ପଲ୍ଲୀଦାସ କୃଷ୍ଣସ୍ଵାମୀ ଆୟର

Options :  
 212807119329 1  
 212807119330 2

212507119331 3  
212507119332 4

Question Number : 235 Question Id : 21250719333 Question Type : MCQ Option Shuffling : No Is Question Mandatory : No Calculator : None  
Response Time : N.A Think Time : N.A Minimum Instruction Time : 0

Correct Marks : 5 Wrong Marks : 1

Question Key Details :

Key	Value
Comprehension	MCQ

ਹੇਠ ਲਿਖਿਆਂ ਵਿਚੋਂ ਕਿਹੜੇ ਲੀਡਰ ਨੇ ਸੰਵਿਧਾਨਕ ਸਭਾ ਵਿਚ ਰਾਸ਼ਟਰੀ ਝੰਡੇ ਦਾ ਪ੍ਰਸਤਾਵ ਪੇਸ਼ ਕਰਦਿਆਂ ਕਿਹਾ ਸੀ ਕਿ ਭਾਰਤ ਦਾ ਝੰਡਾ "ਧਰਤਮੁਖ ਰਿੰਨ ਰੰਗਾ ਕੇਸਰੀ, ਚਿੱਟਾ, ਹਰਾ ਇਕੋ ਅਨੁਪਾਤ ਵਿਚ ਅਤੇ ਨੀਲੇ ਰੰਗ ਦੇ ਚੱਕਰ ਵਾਲਾ ਹੋਵੇਗਾ"।

- (1) ਜਵਾਹਰ ਲਾਲ ਨਹਿਰੂ
- (2) ਸਰਦਾਰ ਵੱਲਭ ਭਾਈ ਪਟੇਲ
- (3) ਰਾਜਿੰਦਰ ਪ੍ਰਸਾਦ
- (4) ਅਲਾਡੀ ਕ੍ਰਿਸ਼ਨਾਸਵਾਮੀ ਅਈਅਰ

Options :

212507119329 1  
212507119330 2  
212507119331 3  
212507119332 4

Question Number : 238 Question Id : 21250719333 Question Type : MCQ Option Shuffling : No Is Question Mandatory : No Calculator : None  
Response Time : N.A Think Time : N.A Minimum Instruction Time : 0

Correct Marks : 5 Wrong Marks : 1

Question Key Details :

Key	Value
Comprehension	MCQ

"ਪੜ੍ਹਕੋਕੈਕਵਾਪੁੱਢਿਲ ਕਾਲੀ, ਵੇਲਾਂਞਞਾ ਮਠੁਰੁਮੁ ਕੁਰੁਮੁਪੁਚੰਞਾਚ ਪੁੱਢੈਕੁਞਾਂ ਸਮ ਅਞਾਵਿਲ, ਨੁੱਢੁਵਿਲ ਨੀਵਨਿਰ ਸਚੰਕਰਮੁ" ਞਞੁਰੁ ਡੇਚੀਯਚੁ ਕੋਕਾਢੁ ਕੁਰੁਠਿੱਠੁ ਡੀਰੁਮਾਞਾਠੁਞਾਠੁ ਅਰੁਚੀਯਲੁ ਚਾਚਞਾ ਨੁਰੁੰਞਾਯ ਚੁਞੈਪਯਿਲੁ ਕੋਕਾਞਾਠੁ ਵਨੁਠੁਠੁ ਯਾਰੁ ?

- (1) ਞੁਵਞੁਞੁਰੁਲਾਲੁ ਠੇਰੁ
- (2) ਚਾੰਠੁਞੁਰੁ ਵਲੁਲੁਪੁਯਾਯੁ ਪੁੱਢੈਲੁ
- (3) ਰਾਞੁਞੁਠੁਰੁ ਯਿਰੁਚਾਠੁ
- (4) ਅਲੁਲਾਯੁ ਕੀਰੁਞੁਞੁਞੁਵਾਯੁ ਞੁਯੁਯਾਰੁ

Options :

212507119329 1  
212507119330 2  
212507119331 3  
212507119332 4

Question Number : 238 Question Id : 21250719333 Question Type : MCQ Option Shuffling : No Is Question Mandatory : No Calculator : None  
Response Time : N.A Think Time : N.A Minimum Instruction Time : 0

Correct Marks : 5 Wrong Marks : 1

Question Key Details :

Key	Value
Comprehension	MCQ

భారత జాతీయ జేండా తీర్మానాను "క్షితిజ సమాంతరంగా కాషాయం, తెలుపు మరియు గాఢ ఆకుపచ్చ త్రిపల్లాల సమాన భాగాల" తో నీలి రంగు చక్రం మధ్యలో ఉన్న ప్రతిపాదనను తానుసభలో ప్రవేశపెట్టిన నాయకుడిని గుర్తించండి.

- (1) జవహర్‌లాల్ నెహ్రూ
- (2) సర్దార్ వల్లభాయి పటేల్
- (3) రాజేంద్ర ప్రసాద్
- (4) అల్లడి కృష్ణస్వామి అయ్యర్

Options :

212807119329 1

212807119330 2

212807119331 3

212807119332 4

Question Number : 238 Question Id : 21280719833 Question Type : MCQ Option Shuffling : No Is Question Mandatory : No Calculator : None

Response Time : N.A Think Time : N.A Minimum Instruction Time : 0

Correct Marks : 5 Wrong Marks : 1

Question Key Details :

Key	Value
Comprehension	MCQ

قرارداد جس میں ہندوستان کے قومی جھنڈے کو افق کے متوازی (Horizontal) کیسریا، سفید اور گناڑے لہرا تین برابر رنگوں کے تین آسانی رنگ کا ہوا کی شکل میں آئینی آئینی میں مندرجہ ذیل میں سے کس رہنمائے تجویز کی۔

- (1) جواہر لال نہرو
- (2) سردار و لہجہ بھائی پٹیل
- (3) راجندر پرشاد
- (4) الادی کرشنا سوامی ائیئر

Options :

212807119329 1

212807119330 2

212807119331 3

212807119332 4

Question Number : 239 Question Id : 21280719834 Question Type : MCQ Option Shuffling : No Is Question Mandatory : No Calculator : None

Response Time : N.A Think Time : N.A Minimum Instruction Time : 0

Correct Marks : 5 Wrong Marks : 1

Question Key Details :

Key	Value
Comprehension	MCQ

Arrange the events relating to the making of the Constitution of India in a chronological order.

- (A) Objectives Resolution was introduced in Constituent Assembly.
- (B) Debates on separate electorates.
- (C) Provincial Assembly chose representatives to Constituent Assembly.
- (D) The Constitution was signed by members of Constituent Assembly.
- (E) Uproar in the Constituent Assembly on the language of the nation.

Choose the correct answer from the options given below :

- (1) (D), (E), (B), (C), (A)
- (2) (E), (D), (C), (B), (A)
- (3) (A), (B), (C), (D), (E)
- (4) (C), (A), (B), (E), (D)

Options :

212807119333 1

212807119334 2

212807119335 3

212807119336 4

Question Number : 239 Question Id : 21280719834 Question Type : MCQ Option Shuffling : No Is Question Mandatory : No Calculator : None

Response Time : N.A Think Time : N.A Minimum Instruction Time : 0

Correct Marks : 5 Wrong Marks : 1

Question Key Details :

Key	Value
Comprehension	MCQ

भारत के संविधान के निर्माण के संदर्भ में निम्न घटनाओं को उनके उचित कालक्रम में व्यवस्थित कीजिए :

- (A) संविधान सभा में उद्देश्य प्रस्तावों की प्रस्तावना।
- (B) पृथक निर्वाचका के लिये वाद विवाद।
- (C) प्रांतीय विभायिकाओं द्वारा संविधान सभा के प्रतिनिधियों का चुनाव।
- (D) संविधान सभा के सदस्यों द्वारा संविधान पर हस्ताक्षर।
- (E) संविधान सभा में राष्ट्र की भाषा पर हंगामा।

नीचे दिए गए विकल्पों में से सही उत्तर का चयन कीजिए :

- (1) (D), (E), (B), (C), (A)
- (2) (E), (D), (C), (B), (A)
- (3) (A), (B), (C), (D), (E)
- (4) (C), (A), (B), (E), (D)

Options :

212807119333 1

212807119334 2

212807119335 3

212807119336 4

Question Number : 239 Question Id : 21280719834 Question Type : MCQ Option Shuffling : No Is Question Mandatory : No Calculator : None

Response Time : N.A Think Time : N.A Minimum Instruction Time : 0

Correct Marks : 5 Wrong Marks : 1

Question Key Details :

Key	Value
Comprehension	MCQ

তলৰ কাৰ্যক্রমসমূহ ক্ৰম অনুসৰি সাজোৱা, যিয়ে জাৰতীয় সংবিধানখন বনায়।

- (A) সংবিধান সভাত অৱজ্ঞেষ্ঠিত বিজলুচনৰ প্ৰস্তাৱ দিয়া হয়।
- (B) পৃথক ভেটিবৰ বাবে তৰ্ক।
- (C) প্ৰাদেশিক সভাৰ পৰা সংবিধান সভালৈ প্ৰতিনিধিসকল বাছি লয়।
- (D) সংবিধানখন সংবিধান সভাৰ সদস্যৰ দ্বাৰা স্বাক্ষৰ কৰা হয়।
- (E) সংবিধান সভাত জাতিৰ ভাষাক লৈ গুৰুত্ব লয়।

তলত দিয়া বিকল্পসমূহৰপৰা শুদ্ধ উত্তৰটো বাছি উলিওৱা :

- (1) (D), (E), (B), (C), (A)
- (2) (E), (D), (C), (B), (A)
- (3) (A), (B), (C), (D), (E)
- (4) (C), (A), (B), (E), (D)

Options :

212807119333 1

212807119334 2

212807119335 3

212807119336 4

Question Number : 239 Question Id : 21280729834 Question Type : MCQ Option Shuffling : No Is Question Mandatory : No Calculator : None  
Response Time : N.A Think Time : N.A Minimum Instruction Time : 0

Correct Marks : 5 Wrong Marks : 1

Question Key Details :

Key	Value
Comprehension	MCQ

ভাৰতৰ স্বাধীনতা সম্পৰ্কিত ঘটনাসমূহকে কালানুক্রমিকভাৱে সাজাও :

- (A) গণ পৰিষদে উদ্দেশ্য প্ৰস্তাব আলোচিত হয়েছিল।
- (B) পৃথক নিৰ্বাচক মন্তলী সম্পৰ্কিত আলোচনা।
- (C) প্ৰাদেশিক সভাগুলি গণ পৰিষদেৰ জন্ম প্ৰতিনিধি নিৰ্বাচন কৰেছিল।
- (D) সংবিধান গণ পৰিষদেৰ সদস্যদেৰ দ্বাৰা স্বাক্ষৰিত হয়েছিল।
- (E) গণ পৰিষদে জাতীয় ভাষা সম্বন্ধে প্ৰচুৰ বাৰ্তনুবাদ

নিচ্য প্ৰদত্ত বিকল্পগুলি থেকে সঠিক উত্তৰটি বেছে নাও :

- (1) (D), (E), (B), (C), (A)
- (2) (E), (D), (C), (B), (A)
- (3) (A), (B), (C), (D), (E)
- (4) (C), (A), (B), (E), (D)

Options :

212807119333 1

212807119334 2

212807119335 3

212807119336 4

Question Number : 239 Question Id : 21280729834 Question Type : MCQ Option Shuffling : No Is Question Mandatory : No Calculator : None  
Response Time : N.A Think Time : N.A Minimum Instruction Time : 0

Correct Marks : 5 Wrong Marks : 1

Question Key Details :

Key	Value
-----	-------

ಅಧಾರಣ್ಣ ಘಟನೆಯ ಪ್ರಕ್ರಿಯೆ ಸಾಢೆ ಸಂಬಂಧಿತ ನೆಲೆ ಅಪೇಲ ಘಟನೆಯೆ ಡೆನೊಲೊಜಿಕಲ ಡಭರ್ಮೆ ಗೊಡವೆ.

- (A) ಅಧಾರಣ್ಣ ಸಭಾಢಾ ಡಿಡ್ಡರಯ ಡರಾಢ ರಣ್ಣ ಡರಣಾಢಾ ಅಲವೊ ಡಲೆ.
- (B) ಅಲಗ ಢತಢಾರ ಢೆಡಣ ಡಿಢರನಿ ಢವೆ.
- (C) ಪ್ರಾಂತ್ಯೀ ಸಭಾಢಾಢೆ ಅಧಾರಣ್ಣ ಸಜಾ ಢಾಡೆ ಪ್ರತಿನಿಧಿಢಾಢೆ ಪಸೆಡಗಿ ಡರಿ.
- (D) ಅಧಾರಣ್ಣ ಸಭಾಢಾ ಸಢಾಢೆ ಅಧಾರಣ್ಣ ಡಿಢರ ಡರತಾಡ್ಡರ ಡವೆ.
- (E) ರಾಡ್ಡನಿ ಅಪಢನಾ ಢುಡ್ಡೆ ಅಧಾರಣ್ಣಸಭಾಢಾ ಡೊಢಾಢೆ.

ನೆಲೆ ಅಪೇಲಾ ಡಿಕಲಢಾಢಾಢೆ ಸಾಢೆ ಡಿಡ್ಡರ ಡಾಢೆ :

- (1) (D), (E), (B), (C), (A)
- (2) (E), (D), (C), (B), (A)
- (3) (A), (B), (C), (D), (E)
- (4) (C), (A), (B), (E), (D)

Options :

212807119333 1

212807119334 2

212807119335 3

212807119336 4

Question Number : 239 Question Id : 21280719834 Question Type : MCQ Option Shuffling : No Is Question Mandatory : No Calculator : None  
Response Time : N.A Think Time : N.A Minimum Instruction Time : 0

Correct Marks : 5 Wrong Marks : 1

Question Key Details :

Key	Value
Comprehension	MCQ

ಭಾರತೀಯ ಸಂವಿಧಾನ ರಚನೆಗೆ ಸಂಬಂಧಿತ ಘಟನೆಗಳನ್ನು ಓಂದು ಕಾಲಾನುಕ್ರಮದಲ್ಲಿ ಡೋಡಿ.

- (A) ಉದ್ದೇಶಗಲ ನಿರ್ಣಯವನ್ನು ಪ್ರಾತಿನಿಧಿಕ ಸಭೆಗೆ ಪರಿಚಯಸಲಾಯಿತು.
- (B) ಪ್ರತ್ಯೇಕ ಢತಢಾರರ ಢೇಲಿನ ಚರ್ಚೆಗಲು.
- (C) ಪ್ರಾಂತೀಯ ಸಭೆಯು ಪ್ರತಿನಿಧಿಗಳನ್ನು ಪ್ರಾತಿನಿಧಿಕ ಸಭೆಗೆ ಆರಿಸಿತು.
- (D) ಸಂವಿಧಾನವು ಪ್ರಾತಿನಿಧಿಕ ಸಭೆಯ ಸವಸ್ಥರುಗಳಂದ ಸಹಿ ಢಾಡಲ್ಪಟ್ಟಿತು.
- (E) ರಾಡ್ಡನ ಛಾಪೆಯಢೇಲೆ ಪ್ರಾತಿನಿಧಿಕ ಸಭೆಯಲ್ಲಿ ಗವ್ವಲವರ್ಪಲ್ಪಿತು.

ಕೆಲೆಗೆ ನಿರೀಡಿಯವ ಆಯ್ಕೆಗಳಂದ ಸರಿಯಾದ ಉತ್ತರವನ್ನು ಆರಿಸಿ.

- (1) (D), (E), (B), (C), (A)
- (2) (E), (D), (C), (B), (A)
- (3) (A), (B), (C), (D), (E)
- (4) (C), (A), (B), (E), (D)

Options :

212807119333 1

212807119334 2

212807119335 3

212807119336 4

Question Number : 239 Question Id : 21280719834 Question Type : MCQ Option Shuffling : No Is Question Mandatory : No Calculator : None  
Response Time : N.A Think Time : N.A Minimum Instruction Time : 0

Correct Marks : 5 Wrong Marks : 1

Question Key Details :

Key	Value
-----	-------

भारतीय संविधानाच्या निर्मितेतील घटना कालानुक्रमे योग्य क्रमाने मांडा.

- (A) संविधान सभेत उद्दिष्टां विषयीचा ठराव मांडला गेला.
- (B) स्वतंत्र मतदार संघांवर वादविवाद.
- (C) प्रांतिक विधीमंडळांनी संविधान सभेसाठी प्रतिनिधी निवडले.
- (D) संविधान सभेच्या सदस्यांनी संविधानावर सहा केलेल्या.
- (E) संविधान सभेत राष्ट्राची भाषा कोणती असावी यावर उघडपोह.

खाली दिलेल्या पर्यायांमधून योग्य पर्याय निवडा :

- (1) (D), (E), (B), (C), (A)
- (2) (E), (D), (C), (B), (A)
- (3) (A), (B), (C), (D), (E)
- (4) (C), (A), (B), (E), (D)

Options :

212807119333 1

212807119334 2

212807119335 3

212807119336 4

Question Number : 239 Question Id : 21280719834 Question Type : MCQ Option Shuffling : No Is Question Mandatory : No Calculator : None  
Response Time : N.A Think Time : N.A Minimum Instruction Time : 0

Correct Marks : 5 Wrong Marks : 1

Question Key Details :

Key	Value
Comprehension	MCQ

ഭരണഘടന നിർമ്മാണ പ്രവർത്തനങ്ങൾ കാലഗണന അനുസരിച്ച് ക്രമീകരിക്കുക.

- (A) ആവശ്യകത നിർദ്ദേശങ്ങൾ ഭരണഘടന അസംബ്ലിയിൽ അവതരിപ്പിച്ചു.
- (B) പ്രാത്യക ഇലക്ട്രിറ്റിനായുള്ള ചർച്ച.
- (C) പ്രാദേശിക അസംബ്ലികളിൽ നിന്ന് അംഗങ്ങളെ തിരഞ്ഞെടുത്തു.
- (D) ഭരണഘടനയിൽ ഭരണഘടന നിർമ്മാണ കമ്മിറ്റി അംഗങ്ങൾ കൈപ്പെട്ട ചർച്ച.
- (E) ദേശീയഭാഷ തീരുമാനിക്കുന്നതുമായി ബന്ധപ്പെട്ട കടുത്ത സംവാദം.

താഴെ തന്നിരിക്കുന്നവയിൽ നിന്നും ശരിയായ ഉത്തരം തിരഞ്ഞെടുത്ത് എഴുതുക.

- (1) (D), (E), (B), (C), (A)
- (2) (E), (D), (C), (B), (A)
- (3) (A), (B), (C), (D), (E)
- (4) (C), (A), (B), (E), (D)

Options :

212807119333 1

212807119334 2

212807119335 3

212807119336 4

Question Number : 239 Question Id : 21280719834 Question Type : MCQ Option Shuffling : No Is Question Mandatory : No Calculator : None  
Response Time : N.A Think Time : N.A Minimum Instruction Time : 0

Correct Marks : 5 Wrong Marks : 1

Question Key Details :



Key	Value
Comprehension	MCQ

ଭାରତର ସମ୍ବିଧାନ ଗଠନରେ ନିମ୍ନଲିଖିତ ଉପସାହାୟକ କାର୍ଯ୍ୟକ୍ରମିକ ସଭାକୁ ଲେଖନ୍ତୁ ।

- (A) ସମ୍ବିଧାନ ସଭାରେ ଲକ୍ଷ୍ୟ ଆନୁଷ୍ଠାନିକ ପ୍ରତ୍ନାବଳ ପରିଚୟ ପୁନଃ ନିୟମାବଳୀ ।
- (B) ପୂର୍ଣ୍ଣ ଉଲ୍ଲେଖ୍ୟାତ୍ମକ ଉପରେ ଆଧାର ।
- (C) ପ୍ରାଦେଶିକ ସଭାରେ ସଂସଦକୁ ଲୋକପ୍ରତିନିଧି ଚୟନ ।
- (D) ସମ୍ବିଧାନ ସଂସଦର ସଭାକୁ ନୂଆ ବାଣ୍ଟି ପ୍ରାପ୍ତ ।
- (E) ସଂସଦରେ ଦେଶର ଭାଷା ଉପରେ ଲୋକାବଳ ନିମ୍ନଲିଖିତ ବିଷୟ ମଧ୍ୟରୁ ସଠିକ୍ ଉତ୍ତରଟି ଚାନ୍ତୁ ।

ନିମ୍ନରେ ଦିଆଯାଇଥିବା ବିକଳ ମଧ୍ୟରୁ ସଠିକ୍ ଉତ୍ତରକୁ ଚିହ୍ନଟ କରନ୍ତୁ ।

- (1) (D), (E), (B), (C), (A)
- (2) (E), (D), (C), (B), (A)
- (3) (A), (B), (C), (D), (E)
- (4) (C), (A), (B), (E), (D)

Options :

- 212807119333 1
- 212807119334 2
- 212807119335 3
- 212807119336 4

Question Number : 239 Question Id : 21280719334 Question Type : MCQ Option Shuffling : No Is Question Mandatory : No Calculator : None Response Time : N.A Think Time : N.A Minimum Instruction Time : 0

Correct Marks : 5 Wrong Marks : 1

Question Key Details :

Key	Value
Comprehension	MCQ

ଭାରତ ਦੇ ସମ୍ବିଧାନକୁ ତିଆରି କରଣ ਦੀਆਂ ଘଟଣାବଳୀ/ପର୍ଯ୍ୟାୟକୁ କାଳ କ୍ରମ ଅନୁସାରେ କରନ୍ତୁ ।

- (A) ସମ୍ବିଧାନକୁ ସଭା ବିଚାର ସମିତି ମଧ୍ୟରୁ ଲାଭିତ କରାଗଲା ।
- (B) ଅଲଗା/ବିଭିନ୍ନ ଗୋଷ୍ଠୀଗୁଡ଼ିକ 'ଡି' ଗଠିତ ।
- (C) ପ୍ରାଥମିକ ସଭା ଓ ସମ୍ବିଧାନକୁ ସଭା ଲାଭି ପ୍ରତିନିଧିଗଣଙ୍କୁ ଡି ଗଠିତ କରାଗଲା ।
- (D) ସମ୍ବିଧାନକୁ ସଭା ଡି ଗଠିତ ଓ ସମ୍ବିଧାନ ଡି ଗଠିତ କରାଗଲା ।
- (E) ଗୋଷ୍ଠୀଗୁଡ଼ିକ ଡି ଗଠିତ 'ଡି' ସମ୍ବିଧାନକୁ ସଭା ବିଚାର କରାଗଲା ।

ଉପର ଲିଖିତ ବିବରଣୀଗୁଡ଼ିକ ମଧ୍ୟରୁ ଠିକ୍ ଉତ୍ତର ଡି ଗଠିତ କରନ୍ତୁ :

- (1) (D), (E), (B), (C), (A)
- (2) (E), (D), (C), (B), (A)
- (3) (A), (B), (C), (D), (E)
- (4) (C), (A), (B), (E), (D)

Options :

- 212807119333 1
- 212807119334 2
- 212807119335 3
- 212807119336 4

Question Number : 239 Question Id : 21280719334 Question Type : MCQ Option Shuffling : No Is Question Mandatory : No Calculator : None Response Time : N.A Think Time : N.A Minimum Instruction Time : 0

Correct Marks : 5 Wrong Marks : 1

Question Key Details :

Key	Value
Comprehension	MCQ

இந்திய அரசியல் சாசனத்தை உருவாக்கிய நிகழ்வுகளை காலவரிசைப்படி அமைக்கவும் :

- (A) குறிக்கோள் தீர்மானம் அரசியல் சாசன நிர்ணய சபையில் கொண்டு வரப்பட்டது  
 (B) தனி வாக்காளர்கள் தொகுதி குறித்த விவாதம்  
 (C) அரசியல் சாசன நிர்ணய சபைக்கு பிரதிநிதிகளை மாகாண சபை தேர்ந்தெடுத்தது  
 (D) அரசியல் சாசனத்தில், அரசியல் சாசன நிர்ணய சபை உறுப்பினர்கள் கையெழுத்திட்டனர்  
 (E) நாட்டின் மொழி குறித்து அரசியல் சாசன நிர்ணய சபையின் அமளி ஏற்பட்டது  
 கீழ்க்காண்பதில் சரியான விடையினைத் தேர்ந்தெடுக்கவும் :

- (1) (D), (E), (B), (C), (A)  
 (2) (E), (D), (C), (B), (A)  
 (3) (A), (B), (C), (D), (E)  
 (4) (C), (A), (B), (E), (D)

Options :

- 212807119333 1  
 212807119334 2  
 212807119335 3  
 212807119336 4

Question Number : 239 Question Id : 21280719834 Question Type : MCQ Option Shuffling : No Is Question Mandatory : No Calculator : None

Response Time : N.A Think Time : N.A Minimum Instruction Time : 0

Correct Marks : 5 Wrong Marks : 1

Question Key Details :

Key	Value
Comprehension	MCQ

భారత రాజ్యాంగం ఏర్పాటుకు సంబంధించిన సంఘటనలను కాలక్రమానుసారంగా అమర్చండి.

- (A) లక్ష్యాల తీర్మానం రాజ్యాంగ పరిషత్ ప్రవేశపెట్టబడింది  
 (B) వేరు ఎన్నికల పై చాదనలు  
 (C) తాత్కాలిక అసెంబ్లీ రాజ్యాంగ అసెంబ్లీకి ప్రతినిధిని ఎన్నుకుంది  
 (D) రాజ్యాంగం తాననసభ సభ్యులచే సంతకం చేయబడింది  
 (E) జాతీయ భాష పై తాననసభలో గంచరగోలం

కింద ఇవ్వబడిన వికల్పాలలో సరైన సమాధానం ఎన్నుకోండి :

- (1) (D), (E), (B), (C), (A)  
 (2) (E), (D), (C), (B), (A)  
 (3) (A), (B), (C), (D), (E)  
 (4) (C), (A), (B), (E), (D)

Options :

- 212807119333 1  
 212807119334 2  
 212807119335 3  
 212807119336 4

Question Number : 139 Question Id : 21280719334 Question Type : MCQ Option Shuffling : No Is Question Mandatory : No Calculator : None  
Response Time : N.A Think Time : N.A Minimum Instruction Time : 0

Correct Marks : 5 Wrong Marks : 1

Question Key Details :

Key	Value
Comprehension	MCQ

ہندوستان کے آئین کے تیار کرنے کے متعلق واقعات کو تاریخی اعتبار سے ترتیب دیں۔

(A) قانون ساز اسمبلی میں اوپننگیو قرارداد پیش کی گئی

(B) الگ طاقہ انتخاب پر مباحث

(C) صوبائی اسمبلی نے قانون ساز اسمبلی کے لئے ممبران چنے

(D) قانون ساز اسمبلی کے ارکان نے آئین پر بحث کے

(E) قانون ساز اسمبلی میں ہنگامی زبان پر بحث

دیئے گئے انتخابات میں سے درست جواب کا انتخاب کریں۔

(D), (E), (B), (C), (A) (1)

(E), (D), (C), (B), (A) (2)

(A), (B), (C), (D), (E) (3)

(C), (A), (B), (E), (D) (4)

Options :

21280719333 1

21280719334 2

21280719335 3

21280719336 4

Question Number : 140 Question Id : 21280719335 Question Type : MCQ Option Shuffling : No Is Question Mandatory : No Calculator : None  
Response Time : N.A Think Time : N.A Minimum Instruction Time : 0

Correct Marks : 5 Wrong Marks : 1

Question Key Details :

Key	Value
Comprehension	MCQ

Match List - I with List - II :-

List - I

List - II

(A) Rajendra Prasad

(I) Chief Draughtsman

(B) B.R Ambedkar

(II) President of the Constituent Assembly

(C) S.N Mukherjee

(III) Chairman of Drafting Committee of the Constitution

(D) B.N Rau

(IV) Constitutional Advisor to the Government of India

Choose the correct answer from the options given below :

(1) (A)-(I), (B)-(II), (C)-(III), (D)-(IV)

(2) (A)-(III), (B)-(II), (C)-(IV), (D)-(I)

(3) (A)-(II), (B)-(III), (C)-(I), (D)-(IV)

(4) (A)-(I), (B)-(IV), (C)-(II), (D)-(III)

Options :

21280719337 1

212807119338 1  
212807119339 3  
212807119340 4

Question Number : 240 Question Id : 21280729835 Question Type : MCQ Option Shuffling : No Is Question Mandatory : No Calculator : None  
Response Time : N.A Think Time : N.A Minimum Instruction Time : 0  
Correct Marks : 5 Wrong Marks : 1  
Question Key Details :

Key	Value
Comprehension	MCQ

सूची-I से सूची-II का मिलान कीजिए:

सूची-I	सूची-II
(A) राजेन्द्र प्रसाद	(I) मुख्य योजनाकार
(B) बी. आर. अम्बेडकर	(II) संविधान सभा के अध्यक्ष
(C) एस. एन. मुखर्जी	(III) संविधान की ड्राफ्टिंग समिति के सभापति
(D) बी. एन. राव	(IV) भारत सरकार के संवैधानिक सलाहकार

नीचे दिए गए विकल्पों में से सही उत्तर का चयन कीजिए :

- (1) (A)-(I), (B)-(II), (C)-(III), (D)-(IV)
- (2) (A)-(III), (B)-(II), (C)-(IV), (D)-(I)
- (3) (A)-(II), (B)-(III), (C)-(I), (D)-(IV)
- (4) (A)-(I), (B)-(IV), (C)-(II), (D)-(III)

Options :

212807119338 1  
212807119339 3  
212807119340 4

Question Number : 240 Question Id : 21280729835 Question Type : MCQ Option Shuffling : No Is Question Mandatory : No Calculator : None  
Response Time : N.A Think Time : N.A Minimum Instruction Time : 0  
Correct Marks : 5 Wrong Marks : 1  
Question Key Details :

Key	Value
Comprehension	MCQ

तालिका - I व सैदेत तालिका - II मिलोवरा :

तालिका - I	तालिका - II
(A) बाजेन्द्र प्रसाद	(I) नूवा खचवा प्रसूतकरवी
(B) बि. आर. आम्बेडकर	(II) संविधान सभा सभापति
(C) एड्. एन. मुखर्जी	(III) सेराबमेन अथाक खचवा प्रसूत समिति
(D) बि. एन. राव	(IV) भारत चवकार संविधानिक उपदेश

तलत दिया विकसस नूवपवा शुक्क उज्वाटे वरि उलिठवा :

- (1) (A)-(I), (B)-(II), (C)-(III), (D)-(IV)
- (2) (A)-(III), (B)-(II), (C)-(IV), (D)-(I)
- (3) (A)-(II), (B)-(III), (C)-(I), (D)-(IV)
- (4) (A)-(I), (B)-(IV), (C)-(II), (D)-(III)

Options :

212507119337-1  
212507119338-2  
212507119339-3  
212507119340-4

Question Number : 240 Question Id : 21250719335 Question Type : MCQ Option Shuffling : No Is Question Mandatory : No Calculator : None  
Response Time : N.A Think Time : N.A Minimum Instruction Time : 0

Correct Marks : 5 Wrong Marks : 1

Question Key Details :

Key	Value
Comprehension	MCQ

তালিকা I এর সাথে তালিকা II মেলাও :

তালিকা I

তালিকা II

- |                      |  |
|----------------------|--|
| (A) রাজেন্দ্র প্রসাদ | (I) প্রধান নবশাদার                       |
| (B) বি. এন. আম্বেদকর | (II) গণ পরিষদের সভাপতি                   |
| (C) এস. এন. মুখার্জী | (III) সংবিধানের খসড়া কমিটির চেয়ারম্যান |
| (D) বি. এন. রাও      | (IV) ভারত সরকারের সাংবিধানিক উপদেষ্টা    |

নিচের বিকল্পগুলি থেকে সঠিক উত্তরটি বেছে কর :

- (1) (A)-(I), (B)-(II), (C)-(III), (D)-(IV)
- (2) (A)-(III), (B)-(II), (C)-(IV), (D)-(I)
- (3) (A)-(II), (B)-(III), (C)-(I), (D)-(IV)
- (4) (A)-(I), (B)-(IV), (C)-(II), (D)-(III)

Options :

212507119337-1  
212507119338-2  
212507119339-3  
212507119340-4

Question Number : 240 Question Id : 21250719335 Question Type : MCQ Option Shuffling : No Is Question Mandatory : No Calculator : None  
Response Time : N.A Think Time : N.A Minimum Instruction Time : 0

Correct Marks : 5 Wrong Marks : 1

Question Key Details :

Key	Value
Comprehension	MCQ

সূচী-I সাথে সূচী-II মেলাও :

সূচী-I

সূচী-II

- |                      |                                       |
|----------------------|---------------------------------------|
| (A) রাজেন্দ্র প্রসাদ | (I) মুখ্য দ্রষ্টসমেন                  |
| (B) পী. আর. আম্বেদকর | (II) পঁঘারল সন্ধানা প্রমুখ            |
| (C) এস. এন. মুখার্জী | (III) পঁঘারলনী দ্রষ্টসি কমিটি অধ্যক্ষ |
| (D) পী. এন. রাও      | (IV) ভারত সরকারনা পঁঘারলীষ সলাহকার    |

নীচে আপোনা বিকল্পোমাঝী সাথো উত্তর আপো :

- (1) (A)-(I), (B)-(II), (C)-(III), (D)-(IV)
- (2) (A)-(III), (B)-(II), (C)-(IV), (D)-(I)
- (3) (A)-(II), (B)-(III), (C)-(I), (D)-(IV)
- (4) (A)-(I), (B)-(IV), (C)-(II), (D)-(III)

Options :

212807119327 1

212807119338 2

212807119339 3

212807119340 4

Question Number : 240 Question Id : 21280729835 Question Type : MCQ Option Shuffling : No Is Question Mandatory : No Calculator : None  
Response Time : N.A Think Time : N.A Minimum Instruction Time : 0

Correct Marks : 5 Wrong Marks : 1

Question Key Details :

Key	Value
Comprehension	MCQ

ಪಟ್ಟಿ - I ಮತ್ತು ಪಟ್ಟಿ - II ನ್ನು ಹೊಂದಿಸಿ.

ಪಟ್ಟಿ - I

ಪಟ್ಟಿ - II

- |                       |   |
|-----------------------|---|
| (A) ರಾಜೇಂದ್ರ ಪ್ರಸಾದ್  | (I) ಮುಖ್ಯ ಕರಡು ಪ್ರತಿ ತಯಾರಕ              |
| (B) ಬಿ.ಆರ್. ಅಂಬೇಡ್ಕರ್ | (II) ಪ್ರತಿನಿಧಿತ್ವ ಸಭೆಯ ಅಧ್ಯಕ್ಷ          |
| (C) ಎಸ್.ಎನ್. ಮುಖರ್ಜಿ  | (III) ಸಂವಿಧಾನದ ಕರಡು ಸಮಿತಿಯ ಮುಖ್ಯಸ್ಥ     |
| (D) ಬಿ.ಎನ್.ರಾವ್       | (IV) ಭಾರತ ಸರ್ಕಾರಕ್ಕೆ ಸಾಂವಿಧಾನಿಕ ಸಲಹೆಗಾರ |

ಕೆಳಗೆ ನೀಡಿರುವ ಆಯ್ಕೆಗಳಿಂದ ಸರಿಯಾದ ಉತ್ತರವನ್ನು ಆರಿಸಿ.

- (1) (A)-(I), (B)-(II), (C)-(III), (D)-(IV)
- (2) (A)-(III), (B)-(II), (C)-(IV), (D)-(I)
- (3) (A)-(II), (B)-(III), (C)-(I), (D)-(IV)
- (4) (A)-(I), (B)-(IV), (C)-(II), (D)-(III)

Options :

212807119337 1

212807119338 2

212807119339 3

212807119340 4

Question Number : 240 Question Id : 21280729835 Question Type : MCQ Option Shuffling : No Is Question Mandatory : No Calculator : None  
Response Time : N.A Think Time : N.A Minimum Instruction Time : 0

Correct Marks : 5 Wrong Marks : 1

Question Key Details :

Key	Value
Comprehension	MCQ

ಸೂಚಿ - I ಮತ್ತು ಸೂಚಿ - II ಮಧಲ ಯೋಗ್ಯ ಜೊಡೆಯಾ ಜುಲುವಾ :-

ಸೂಚಿ - I

ಸೂಚಿ - II

- |                       |  |
|-----------------------|--|
| (A) ರಾಜೇಂದ್ರ ಪ್ರಸಾದ್  | (I) ಪ್ರಮುಖ ಮಸೂದಾಕಾರ                      |
| (B) ಬಿ.ಆರ್. ಅಂಬೇಡ್ಕರ್ | (II) ಸಂವಿಧಾನ ಸಭೆಗೆ ಅಧ್ಯಕ್ಷ               |
| (C) ಎಸ್.ಎನ್. ಮುಖರ್ಜಿ  | (III) ಸಂವಿಧಾನಾಚ್ಯಾ ಮಸೂದಾ ಸಮಿತಿಗೆ ಅಧ್ಯಕ್ಷ |
| (D) ಬಿ.ಎನ್.ರಾವ್       | (IV) ಭಾರತ ಸರ್ಕಾರಗೆ ಸಂವಿಧಾನಿಕ ಸಲಹೆಗಾರ     |

ಖಾಲಿ ದಿಲೆಲ್ಯಾ पर्यायोंमधून योग्य पर्याय निवडा :

- (1) (A)-(I), (B)-(II), (C)-(III), (D)-(IV)
- (2) (A)-(III), (B)-(II), (C)-(IV), (D)-(I)
- (3) (A)-(II), (B)-(III), (C)-(I), (D)-(IV)
- (4) (A)-(I), (B)-(IV), (C)-(II), (D)-(III)

Options :  
 212807119327 1  
 212807119338 2  
 212807119339 3  
 212807119340 4

Question Number : 240 Question Id : 21280729835 Question Type : MCQ Option Shuffling : No Is Question Mandatory : No Calculator : None  
 Response Time : N.A Think Time : N.A Minimum Instruction Time : 0  
 Correct Marks : 5 Wrong Marks : 1  
 Question Key Details :

Key	Value
Comprehension	MCQ

ലിസ്റ്റ് - I ലിസ്റ്റ് - II മായി ചേരുമ്പോൾ ചേർക്കുക

ലിസ്റ്റ് - I

ലിസ്റ്റ് - II

- |                       |   |
|-----------------------|---|
| (A) രാജേന്ദ്ര പ്രസാദ് | (I) ചീഫ് പ്രൊഫ്റ്റ്സ്‌മാൻ                               |
| (B) B.R അംബേദ്കർ      | (II) ഭരണഘടന നിർമ്മാണ സമിതി അധ്യക്ഷൻ                     |
| (C) S.N മുഖർജി        | (III) ഭരണഘടന എഴുതി തയ്യാറാക്കുന്ന കമ്മിറ്റിയുടെ ചെയർമാൻ |
| (D) B.N റാവു          | (IV) ഇന്ത്യ ഗവൺമെന്റിന്റെ ഭരണഘടന ഉപദേഷ്ടാവ്             |

താഴെ തന്നിരിക്കുന്നവയിൽ നിന്നും ശരിയായ ഉത്തരം തിരഞ്ഞെടുത്ത് എഴുതുക.

- (1) (A)-(I), (B)-(II), (C)-(III), (D)-(IV)
- (2) (A)-(III), (B)-(II), (C)-(IV), (D)-(I)
- (3) (A)-(II), (B)-(III), (C)-(I), (D)-(IV)
- (4) (A)-(I), (B)-(IV), (C)-(II), (D)-(III)

Options :  
 212807119327 1  
 212807119338 2  
 212807119339 3  
 212807119340 4

Question Number : 240 Question Id : 21280729835 Question Type : MCQ Option Shuffling : No Is Question Mandatory : No Calculator : None  
 Response Time : N.A Think Time : N.A Minimum Instruction Time : 0  
 Correct Marks : 5 Wrong Marks : 1  
 Question Key Details :

Key	Value
Comprehension	MCQ

ਠਾਡੀਕਾ-I ਖਹਿੰਓ ਠਾਡੀਕਾ-II ਨੂੰ ਸਿੱਕਾਨੂੰ ।

ਠਾਡੀਕਾ-I	ਠਾਡੀਕਾ-II
(A) ਕਾਕੇਲੁ ਪੁਕਾਨ	(I) ਸੁਭਾ ਸਭਾ ਅਕਾਨਕਾ
(B) ਫਿ.ਆਰ. ਆਨੇਕਕਰ	(II) ਖਾਖਕ ਕਾਕੁਪਠਿ
(C) ਖਕ.ਖਕ. ਸੁਭਾਠਿ	(III) ਖਸਿਖਾਨਕ ਕੁਪਠਿਕ ਕਾਠਿਕ ਕੇਕਾਨਕਾਨ
(D) ਫਿ.ਖਕ. ਕਾਠ	(IV) ਕਾਕਠ ਖਕਕਾਕਕ ਕਾਸਿਖਾਨਿਕ ਕਪਕੇਕਾਨਕਾ

ਸਿੱਕਾਨੂੰ ਠਿਠਾਕਾਕੁਪਕਾ ਠਿਕਕ ਸਠਕੁ ਖਠਿਕ ਕਕਕਕੁ ਠਿਕੁਕ ਠਕਕੁ ।

- (1) (A)-(I), (B)-(II), (C)-(III), (D)-(IV)
- (2) (A)-(III), (B)-(II), (C)-(IV), (D)-(I)
- (3) (A)-(II), (B)-(III), (C)-(I), (D)-(IV)
- (4) (A)-(I), (B)-(IV), (C)-(II), (D)-(III)

Options :

- 212807119337 1  
212807119338 2  
212807119339 3  
212807119340 4

Question Number : 240 Question Id : 21280719835 Question Type : MCQ Option Shuffling : No Is Question Mandatory : No Calculator : None  
Response Time : N.A Think Time : N.A Minimum Instruction Time : 0

Correct Marks : 5 Wrong Marks : 1

Question Key Details :

Key	Value
Comprehension	MCQ

ਸੂਚੀ-I ਦਾ ਸੂਚੀ-II ਨਾਲ ਸਿਲਾਣ ਕਰੋ ।

ਸੂਚੀ-I	ਸੂਚੀ-II
(A) ਰਾਸਿੰਦਰ ਪ੍ਰਠਾਦ	(I) ਮੁੱਖ ਡਰਾਫਟਸਮੈਨ
(B) ਬੀ.ਆਰ. ਅੰਬੇਦਕਰ	(II) ਸੰਵਿਧਾਨ ਸਭਾ ਦਾ ਪ੍ਰਠਾਨ
(C) ਐਸ.ਐਨ. ਸੁਖਰਜੀ	(III) ਸੰਵਿਧਾਨ ਦੀ ਡਰਾਫਟਿੰਗ ਕਮਿਟੀ ਦਾ ਚੇਅਰਮੈਨ
(D) ਬੀ.ਐਨ. ਰਾਠਿ	(IV) ਭਾਰਤ ਸਰਕਾਰ ਲਈ ਸੰਵਿਧਾਨਕ ਸਲਾਹਕਾਰ

ਹੇਠ ਲਿਖਿਆ ਵਿਕਲਪਾਂ ਵਿੱਚ ਸਹੀ ਉੱਤਰ ਦੀ ਚੋਣ ਕਰੋ :

- (1) (A)-(I), (B)-(II), (C)-(III), (D)-(IV)
- (2) (A)-(III), (B)-(II), (C)-(IV), (D)-(I)
- (3) (A)-(II), (B)-(III), (C)-(I), (D)-(IV)
- (4) (A)-(I), (B)-(IV), (C)-(II), (D)-(III)

Options :

- 212807119337 1  
212807119338 2  
212807119339 3  
212807119340 4

Question Number : 240 Question Id : 21280719835 Question Type : MCQ Option Shuffling : No Is Question Mandatory : No Calculator : None  
Response Time : N.A Think Time : N.A Minimum Instruction Time : 0

Correct Marks : 5 Wrong Marks : 1

Question Key Details :

Key	Value
-----	-------



பட்டியல் I -ஐ பட்டியல் II உடன் பொருத்துக.

பட்டியல் I

பட்டியல் II

- |                        |   |
|------------------------|---|
| (A) ராஜேந்திர பிரசாத்  | (I) தலைமை வரைவாளர்                              |
| (B) பி.ஆர். அம்பேத்கர் | (II) அரசியல் சாசன நிர்ணயச் சபை தலைவர்           |
| (C) எஸ்.என். முகர்ஜி   | (III) அரசியல் சாசனத்தின் வரைவு கமிட்டித் தலைவர் |
| (D) பி.என். ராவ்       | (IV) இந்திய அரசாங்கத்தின் அரசியல் சாசன ஆலோசகர்  |

கீழ்க்காண்பதில் சரியான விடையைத் தேர்ந்தெடுக்கவும் :

- (1) (A)-(I), (B)-(II), (C)-(III), (D)-(IV)
- (2) (A)-(III), (B)-(II), (C)-(IV), (D)-(I)
- (3) (A)-(II), (B)-(III), (C)-(I), (D)-(IV)
- (4) (A)-(I), (B)-(IV), (C)-(II), (D)-(III)

Options :

212807119337 1

212807119338 2

212807119339 3

212807119340 4

Question Number : 240 Question Id : 212807119335 Question Type : MCQ Option Shuffling : No Is Question Mandatory : No Calculator : None Response Time : N.A Think Time : N.A Minimum Instruction Time : 0

Correct Marks : 5 Wrong Marks : 1

Question Key Details :

Key	Value
Comprehension	MCQ

உஸ்த் -I ని ఉస్త - II తో జతపరచండి :

ఉస్త - I

ఉస్త - II

- |                       |                                      |
|-----------------------|--------------------------------------|
| (A) రాజేంద్ర ప్రసాద్  | (I) ముఖ్య రూపకర్త                    |
| (B) బి.ఆర్. అంబేద్కర్ | (II) శాసనసభ అధ్యక్షుడు               |
| (C) ఎస్.ఎన్. ముఖర్జీ  | (III) రాజ్యాంగ రచన కమిటీ అధ్యక్షుడు  |
| (D) బి.ఎన్. రాము      | (IV) భారత ప్రభుత్వ రాజ్యాంగ సలహాదారు |

కింద ఇవ్వబడిన వికల్పాలలో సరైన సమాధానం ఎన్నుకోండి :

- (1) (A)-(I), (B)-(II), (C)-(III), (D)-(IV)
- (2) (A)-(III), (B)-(II), (C)-(IV), (D)-(I)
- (3) (A)-(II), (B)-(III), (C)-(I), (D)-(IV)
- (4) (A)-(I), (B)-(IV), (C)-(II), (D)-(III)

Options :

212807119337 1

212807119338 2

212807119339 3

212807119340 4

Question Number : 240 Question Id : 212807119335 Question Type : MCQ Option Shuffling : No Is Question Mandatory : No Calculator : None Response Time : N.A Think Time : N.A Minimum Instruction Time : 0

Correct Marks : 5 Wrong Marks : 1

## Question Key Details :

Key	Value
Comprehension	MCQ

فہرست I کو فہرست II سے ملائیں۔

فہرست II	فہرست I
(I) قانون کا مسودہ تیار کرنے والا اعلیٰ شخص (ڈرافٹ مین)	(A) راجیو پرساو
(II) قانون ساز اسمبلی کا صدر	(B) بی آر مہیڈکر
(III) آئین تیار کرنے والی ڈرافٹنگ کمیٹی کے چیئرمین	(C) ایس این کھرجی
(IV) حکومت ہند کا آئینی صلاح کار	(D) بی این راؤ

دیئے گئے انتخابات میں سے درست جواب کا انتخاب کریں۔

- (1) (A)-(I), (B)-(II), (C)-(III), (D)-(IV)
- (2) (A)-(III), (B)-(II), (C)-(IV), (D)-(I)
- (3) (A)-(II), (B)-(III), (C)-(I), (D)-(IV)
- (4) (A)-(I), (B)-(IV), (C)-(II), (D)-(III)

## Options :

- 112807119337 1  
 112807119338 2  
 112807119339 3  
 112807119340 4

Sub-Section Number :

2

Sub-Section Id :

1128072158

Question Shuffling Allowed :

No

Is Section Default? :

null

Question Number : 241 Question Id : 11280719836 Question Type : MCQ Option Shuffling : No Is Question Mandatory : No Calculator : None  
 Response Time : N.A Think Time : N.A Minimum Instruction Time : 0

Correct Marks : 5 Wrong Marks : 1

## Question Key Details :

Key	Value
Comprehension	Compl

**Read the passage and answer the question :**

The Buddha (and other teachers) taught orally - through discussions and debates. Men and women (perhaps children as well) attended these discourses and discussed what they heard. None of the Buddha's speeches were written down during his lifetime. After his death (c. fifth-fourth century BCE) his teachings were compiled by his disciples at a council of "elders" or senior monks at Vesali (Pali for Vaishali in present-day Bihar). These compilations were known as Tipitaka - literally, three baskets to hold different types of texts. They were first transmitted orally and then written and classified according to length as well as subject matter.

The Vinaya Pitaka included rules and regulations for those who joined the sangha or monastic order; the Buddha's teachings were included in the Sutta Pitaka; and the *Abhidhamma Pitaka* dealt with philosophical matters. Each *pitaka* comprised a number of individual texts. Later, commentaries were written on these texts by Buddhist scholars.

As Buddhism travelled to new regions such as Sri Lanka, other texts such as the *Dipavamsa* (literally, the chronicle of the island) and *Mahavamsa* (the great chronicle) were written, containing regional histories of Buddhism. Many of these works contained biographies of the Buddha. Some of the oldest texts are in Pali, while later compositions are in Sanskrit.

When Buddhism spread to East Asia, pilgrims such as Fa Xian and Xuan Zang travelled all the way from China to India in search of texts. These they took back to their own country, where they were translated by scholars. Indian Buddhist teachers also travelled to faraway places, carrying texts to disseminate the teachings of the Buddha.

The Buddhist texts were preserved in manuscripts for several centuries in monasteries in different parts of Asia. Modern translations have been prepared from Pali, Sanskrit, Chinese and Tibetan texts.

What amongst the following is **NOT** a part of the Tipitaka ?

- (1) Abhidhamma
- (2) Vinaya
- (3) Dipavamsa
- (4) Sutta

Options :

212807119341 1

212807119342 2

212807119343 3

212807119344 4

Question Number : 241 Question Id : 21280719336 Question Type : MCQ Option Shuffling : No Is Question Mandatory : No Calculator : None

Response Time : N.A Think Time : N.A Minimum Instruction Time : 0

Correct Marks : 5 Wrong Marks : 1

Question Key Details :

Key	Value
Comprehension	Comp1

निम्नलिखित गद्यांश को पढ़कर नीचे दिये गये प्रश्न का उत्तर दीजिए :

बुद्ध (अन्य शिक्षकों की तरह) चर्चा और बातचीत करते हुए मौखिक शिक्षा देते थे। महिलाएँ और पुरुष (शायद बच्चे भी) इन प्रवचनों को सुनते थे और इन पर चर्चा करते थे। बुद्ध के किसी भी संभाषण को उनके जीवन काल में लिखा नहीं गया। उनकी मृत्यु के बाद (पाँचवीं-चौथी सदी ई.पू.) उनके शिष्यों ने 'ज्योष्टों' या ज्यादा वरिष्ठ श्रमणों को एक सभा वेसली (बिहार स्थित वैशाली का पालि भाषा में रूप) में बुलाई। वहाँ पर ही उनकी शिक्षाओं का संकलन किया गया। इन संग्रहों को 'त्रिपिटक' (शब्दार्थ भिन्न प्रकार के ग्रंथों को रखने के लिए 'तीन टोकरियाँ') कहा जाता था। पहले उन्हें मौखिक रूप से ही संप्रेषित किया जाता था। बाद में लिखकर विषय और लंबाई के अनुसार वर्गीकरण किया गया।

विनय पिटक में संघ या बौद्ध मठों में रहने वाले लोगों के लिए नियमों का संग्रह था। बुद्ध की शिक्षाएँ *सुत्त पिटक* में रखी गईं और दर्शन से जुड़े विषय *अभिधम्म पिटक* में आए। हर पिटक के अंदर कई ग्रंथ होते थे। बाद के युगों में बौद्ध विद्वानों ने इन ग्रंथों पर टोकारें लिखीं।

जब बौद्ध धर्म श्रीलंका जैसे नए इलाकों में फैला *दीपवंश* (द्वीप का इतिहास) और *महावंश* (महान इतिहास) जैसे क्षेत्र-विशेष के बौद्ध इतिहास को लिखा गया। इनमें से कई रचनाओं में बुद्ध की जीवनियों लिखी गई हैं। ज्यादातर पुराने ग्रंथ पालि में हैं। बाद के युगों में संस्कृत में ग्रंथ लिखे गए।

जब बौद्ध धर्म पूर्व एशिया में फैला तब फा-शिअन और श्वैन त्सांग जैसे तीर्थयात्री बौद्ध ग्रंथों की खोज में चीन से भारत आए। ये पुस्तकें वे अपने देश ले गए जहाँ विद्वानों ने इनका अनुवाद किया। हिन्दुस्तान के बौद्ध शिक्षक भी दूर-दराज के देशों में गए। बुद्ध की शिक्षाओं का प्रसार करने के लिए वे कई पुस्तकें भी अपने साथ ले गए।

कई सदियों तक ये पांडुलिपियाँ एशिया के भिन्न-भिन्न इलाकों में स्थित बौद्ध विहारों में संरक्षित थीं। पालि, संस्कृत, चीनी और तिब्बती भाषाओं में लिखे इन ग्रंथों से आधुनिक अनुवाद तैयार किए गए हैं।

निम्न में से कौन त्रिपिटक का भाग नहीं है?

- (1) अभिधम्म
- (2) विनय
- (3) दीपवंश
- (4) सुत्त

Options :

212807119341 1

212807119342 2

212807119343 3

212807119344 4

Question Number : 241 Question Id : 21280719836 Question Type : MCQ Option Shuffling : No Is Question Mandatory : No Calculator : None

Response Time : N/A Think Time : N/A Minimum Instruction Time : 0

Correct Marks : 5 Wrong Marks : 1

Question Key Details :

Key	Value
Comprehension	Compl.

তলৰ পাঠাংশ আৰু প্ৰশ্নসমূহৰ উত্তৰ দিয়া :

গৌতম বুদ্ধ (আৰু অন্য শিক্ষকসকলে) মৌখিকভাৱে শিক্ষা প্ৰদান কৰিছিল, আলোচনা আৰু তৰ্কৰ যোগেৰে। পুৰুষ আৰু মহিলা (কেতিয়াবা শিশু) এই বস্তুতাবেশত উপস্থিত আছিল আৰু তেওঁলোকে শুনা কথাবোৰ আলোচনা কৰিছিল। বুদ্ধৰ জীৱন কালত তেওঁৰ কোনো বস্তুতাবেশ ক'তো লিখা হোৱা নাছিল। তেওঁৰ মৃত্যুৰ পিছত (খৃষ্টপূৰ্ব পঞ্চম-চতুৰ্থ শতিকাত) তেওঁৰ শিক্ষা আৰু লিখনসমূহ সংকলিত কৰিছিল তেওঁৰ শিষ্যসকলে একম 'প্ৰাচীন' পৰিষদত মতুবা (মোংক) সন্ন্যাসীসকল বৈশাঙ্গীত (পালি বৈশাঙ্গীক কোৱা হ'ব, বৰ্তমানৰ বিহাৰত অৱস্থিত) এই সংকলনসমূহ ত্ৰিপিটক ৰূপে জনা যায়, তিনি প্ৰকাৰৰ টোপোলা বিভিন্ন ধৰণৰ লিখনি ৰখিবলৈ। প্ৰথমতে তেওঁলোকে মন্ত্ৰ পাঠ কৰে মৌখিক ৰূপত আৰু তাৰ পিছত লিখিছিল আৰু শ্ৰেণীভুক্ত কৰিছিল তাৰ বিষয় আৰু সৈধ্যতা অনুসৰি।

বিনয় পিটকত সংঘ বা মঠ-মন্দিৰত যোগদান কৰাসকলৰ বাবে নিয়ম-নীতি অন্তৰ্ভুক্ত কৰা হৈছিল, বুদ্ধৰ শিক্ষা সুত্ত পিটকত অন্তৰ্ভুক্ত কৰা হৈছিল আৰু অভিযান্মা পিটকত দাৰ্শনিক বিষয়সমূহ অন্তৰ্ভুক্ত কৰা হৈছিল। প্ৰত্যেকটো পিটকতে কেইবাখনো ব্যক্তিগত গ্ৰন্থ আছিল। পিছলৈ বৌদ্ধ পণ্ডিতসকলৰ দ্বাৰা এই সকলোবোৰ ধাৰাবাহিক ৰূপত লিখা হৈছিল।

বৌদ্ধধৰ্মী ৰূপে শ্ৰীলংকালৈ ভ্ৰমণ কৰিছিল অন্য লিখনীয়ে যেনে— 'দীপবংশ' (দীপৰ বৃৰঞ্জী) আৰু 'মাধৱবংশ' (মহান বৃৰঞ্জী), বুদ্ধৰ আঞ্চলিক ইতিহাসক জড়িত কৰিছিল। ইয়াৰে বহুতো কাম বুদ্ধৰ জীৱনীত সন্নিবিষ্ট কৰা হৈছে। কিছুমান পৌৰাণিক লিখনি পালিত আৰু শেহতীয়াকৈ সংস্কৃতত ৰচনা কৰা হৈছিল।

যেতিয়া বৌদ্ধ ধৰ্ম পূৰ্ব এছিয়াত বিস্তাৰিত হয়, যাঁ-হিয়ান আৰু হেন চিয়ানৰ দৰে তীৰ্থযাত্ৰীসকলে চীনা পৰা ভাৰতলৈ আহিছিল বুদ্ধৰ লিখিত গ্ৰন্থৰ সন্ধানত। সেৱা তেওঁলোকে নিজৰ দেশলৈ কঢ়িয়াই লৈ যায়, যাঁত তেওঁলোকৰ পণ্ডিতৰ দ্বাৰা পুথিসমূহ অনুবাদ কৰায়। ভাৰতীয় বৌদ্ধ শিক্ষকসমূহেও বহু দূৰলৈ ভ্ৰমণ কৰিছিল, গ্ৰন্থসমূহ কঢ়িয়াই লৈ ফুৰিছিল বুদ্ধৰ শিক্ষাক প্ৰসাৰিত কৰাৰ বাবে।

এছিয়াৰ বিভিন্ন বৌদ্ধ ধৰ্মৰ মঠ-মন্দিৰসমূহত বুদ্ধৰ লিখনসমূহৰ পাণ্ডুলিপি বহু শতিকালৈ সংৰক্ষণ কৰা হৈছিল। আধুনিক অনুবাদসমূহ পালি, সংস্কৃত, চীনা আৰু তিব্বতীয় লিখনীৰ পৰা কৰা হৈছিল।

তলৰ কোনটো ত্ৰিপিটকৰ অংশ নহয় ?

- (1) অভিযান্মা
- (2) বিনয়
- (3) দীপবংশ
- (4) সুত্ত

Options :

- 212807119341-1  
212807119342-2  
212807119343-3  
212807119344-4

Question Number : 241 Question Id : 21280719936 Question Type : MCQ Option Shuffling : No Is Question Mandatory : No Calculator : None

Response Time : N.A Think Time : N.A Minimum Instruction Time : 0

Correct Marks : 5 Wrong Marks : 1

Question Key Details :

Key	Value
Comprehension	Compl

### অনুচ্ছেদটি পড়ো ও প্রশ্নের উত্তর দাও :

বুদ্ধ (ও অন্য গুরুরা) মুখে মুখে পড়াতেন— আলোচনা ও বিতর্কের মাধ্যমে। পুরুষ ও নারীর (সম্ভবতঃ শিশুরাও) এই সভাগুলিতে উপস্থিত থাকত এবং বা তারা জনতা সে বিষয়ে আলোচনা করতো। বুদ্ধের কোন ভাষণ তাঁর জীবদ্দশাকালীন লিখিত হয়নি। তাঁর মৃত্যুর পর (পঞ্চম থেকে চতুর্থ খ্রীষ্ট পূর্বাব্দে) “বদ্বক্ক” বা প্রবীণ সন্ন্যাসী, যারা তাঁর শিষ্য ছিলেন ভেঙ্গাঙ্গি (পালিতে বৈশাঙ্গী-বর্তমান বিহারে) তে তাঁরা পরিষদ গঠন করে। বুদ্ধের বাণীগুলি সংকলিত করেন। এই সংকলনগুলি ত্রিপিটক নামে পরিচিত— আক্ষরিকভাবে তিনটি পৃথক পাত্র যেখানে নানান ধরণের বিষয় রাখা হত। প্রথমে তারা মৌখিক আলোচনা করতো ও তারপর লিখতো এবং দৈর্ঘ্য ও বিষয়বস্তু অনুযায়ী সেগুলি শ্রেণিবিন্যস্ত করা হতো।

বিনয় পিটিকে সংঘ বা মঠে যোগদানকারী শিষ্য-শিষ্যামণ্ডলীর জন্য নিয়মকানুন সংকলিত ছিল। বুদ্ধের বাণীসমূহ সূত্র পিটিকে ও অভিধম্ম পিটিকে দার্শনিক বিবরণসমূহ আলোচিত হয়। প্রত্যেক পিটক অল্প বেশ করেকটি বিষয় নিয়ে গঠিত হয়। পরবর্তী সময়ে পিটকের বিষয়বস্তুগুলির উপর ধারাবাহিক কাব্য বৌদ্ধ পণ্ডিতদের দ্বারা লিখিত হয়েছিল।

বুদ্ধ নতুন নতুন অঞ্চলে পরিভ্রমণ করেছিলেন, যেমন শ্রীলঙ্কা। সেই মতো বৌদ্ধধর্মের আঞ্চলিক ইতিহাস দীপবংশ (আক্ষরিক অর্থে বীপভূমির ইতিবৃত্ত) ও মহাবংশ (মহাইতিবৃত্ত) লিখিত হয়। এইসকল রচনাগুলির অনেকগুলিতে বুদ্ধের জীবনী বিধৃত আছে। আদি বৌদ্ধ শাস্ত্রের কিছু পালি ভাষায় আর পরবর্তীতে বৌদ্ধশাস্ত্রগুলি সংস্কৃত ভাষায় লিখিত হয়।

বৌদ্ধ ধর্ম পূর্ব এশিয়ায় বিস্তার লাভ করলে পর্যটকরা যেমন— ফা-হিয়েন ও জুয়াং জ্যাং চীন থেকে ভারতে এসেছিলেন বৌদ্ধ শাস্ত্রগুলি অনুসন্ধানের জন্য। বহু বৌদ্ধ ধর্ম বিষয়ক তথ্য ও শাস্ত্র-সংগ্রহ করে তারা স্বদেশে নিয়ে যায় যেগুলি বিশেষজ্ঞদের দ্বারা অনুলিখিত হয়েছিল। ভারতীয় বৌদ্ধ পণ্ডিতরা বহু দূরবর্তী জায়গায় ভ্রমণ করেছিলেন। সঙ্গে তারা বৌদ্ধ ধর্ম সংক্রান্ত গ্রন্থ বহন করতেন, বৌদ্ধ ধর্মের বাণী ছড়িয়ে দেওয়ার জন্য।

বৌদ্ধ সাহিত্যগুলি বহু শতাব্দী যাবৎ পালুলিপি আকারে এশিয়ার বিভিন্ন অঞ্চলের মঠগুলিতে রক্ষিত হয়েছিল। আধুনিক অনুবাদগুলি পালি, সংস্কৃত, চীনা ও তিব্বতী বৌদ্ধ শাস্ত্র-সাহিত্যগুলি থেকে প্রস্তুত করা হয়েছে।

নিচে উল্লিখিত বিষয়গুলির মধ্যে কোনটি ত্রিপিটকের অংশ নয় ?

- (1) অভিধর্ম
- (2) বিনয়
- (3) দীপবংশ
- (4) সূত্র

Options :

212807119341 1

212807119342 2

212807119343 3

212807119344 4

Question Number : 241 Question Id : 21280719836 Question Type : MCQ Option Shuffling : No Is Question Mandatory : No Calculator : None  
Response Time : N/A Think Time : N/A Minimum Instruction Time : 0

Correct Marks : 5 Wrong Marks : 1

Question Key Details :

Key	Value
Comprehension	Compl

નીચેનો ફકરોવાંચી પ્રશ્નોના ઉત્તર આપો :

બુદ્ધ (અને અન્ય શિક્ષકો) ચર્ચાઓ અને વિચારણાઓ દ્વારા મૌખિક રીતે ઉપદેશ આપતા હતા. સ્ત્રીઓ અને પુરુષો (કદાચ બાળકો પણ) આ પ્રવચનોમાં હાજરી આપતા હતા અને તેઓએ જે સાંભળ્યું હતું તેની ચર્ચા કરતા હતા. બુદ્ધના જીવનકાળ દરમિયાન તેમણે એક પણ ભાષણ લખવામાં આવ્યું ન હતું. તેમના મૃત્યુ (સૌથી-ખાંચથી સદી BCE) પછી તેમના ઉપદેશોનું વેશાલીમાં (પાલીમાં વેશાલી જે હાલમાં બિહારમાં આવેલું છે) "વડીલો" કે વરીષ્ઠ સાદુઓની પરિષદમાં સંકલન કરવામાં આવ્યું હતું. આ સંકલનો ત્રીપીટક તરીકે ઓળખાતા છે જેનો શાબ્દિક અર્થ-વિવિધ પ્રકારના ગ્રંથો રાખવા માટેની ત્રણ ટોપલીઓ થાય છે; તેઓને પ્રથમ મૌખિક રીતે પ્રસારિત કરવામાં આવ્યા હતાં અને બાદમાં લખીને તેની લંબાઈ અને વિષયવસ્તુ પ્રમાણે વર્ગીકૃત કરવામાં આવ્યા હતાં.

વિનય પીટકમાં સંઘ અથવા સાદુઓના ક્રમમાં જોડાવ માટેના નિતીનિયમોનો સમાવેશ થતો હતો. સુત્તપીટક અને અભિધમ્મ પિટક તાત્કીક બાબતો સાથે સંબંધિત છે. દરેક પીટકમાં સાંખ્યાવંધ સ્વતંત્ર ગ્રંથોનો સમાવેશ થતો હતો. પાછળથી બુદ્ધીસ્ત વિદ્યાનો દ્વારા આ લખાણો ઉપરની ટીકાઓ લખવામાં આવી હતી.

જ્યારે બુદ્ધ ધર્મ ગ્રીલેંડા જેવા નવા પ્રદેશોમાં પહોંચે છે, ત્યારે બીજા ગ્રંથો જેવાકે દીપવંશ (શાબ્દિક અર્થ-ટાપુનો) અને મહાવંશ (મહાન ) લખવામાં આવ્યા હતાં, જેમાં બૌદ્ધ ધર્મનો પ્રાદેશિક ઇતિહાસ સમાવાયેલો છે, તેમાંથી કેટલાક જૂના લખાણો પાલીમાં લખાયા છે, જ્યારે પછીની રચનાઓ સંસ્કૃતમાં લખવામાં આવી છે.

જ્યારે બૌદ્ધ ધર્મ પૂર્વ એશિયામાં ફેલાયો, ડા હિયાન અને જ્યુ-એન-ત્સાંગ જેવા યાત્રાળુઓ આ લખાણોની શોધમાં છેક ચીનથી ભારત સુધી આવ્યા, અને આ લખાણોને તેઓ પોતાના દેશમાં પાછા લઈ ગયા. જ્યાં વિદ્વાનો દ્વારા તેનું ભાષાંતર કરવામાં આવ્યું. ભારતીય બુદ્ધીસ્ત શિક્ષકો પણ બુદ્ધના ઉપદેશોના પ્રસાર માટે દૂરના સ્થળોએ પ્રવાસ કરતો હતાં. આ લખાણ એશિયાના વિવિધ ભાગોમાં આવેલા મઠોમાં સદીઓ સુધી હસ્તપ્રતોમાં સમવાયેલું હતું.

આધુનિક અનુવાદો પાલી, સંસ્કૃત, ચાઈનીઝ અને ત્રીબેટીયન લખાણોમાંથી તૈયાર કરવામાં આવ્યા છે.

નીચેનામાંથી કયો ત્રીપીટકનો ભાગ નથી ?

- (1) અભિધમ્મ
- (2) વીનય
- (3) દીપવંશ
- (4) સુત્ત

Options :

212807119341 1

212807119342 2

212807119343 3

212807119344 4

Question Number : 241 Question Id : 21280719336 Question Type : MCQ Option Shuffling : No Is Question Mandatory : No Calculator : None

Response Time : N.A Think Time : N.A Minimum Instruction Time : 0

Correct Marks : 5 Wrong Marks : 1

Question Key Details :

Key	Value
Comprehension	Compl

ವಾಕ್ಯ ಪುಂಜವನ್ನು ಓದಿ ಮತ್ತು ಪ್ರಶ್ನೆಗಳಿಗೆ ಉತ್ತರಿಸಿ :

ಬುದ್ಧ (ಮತ್ತು ಇತರ ಶಿಕ್ಷಕರು) ಸಮಾಲೋಚನೆಗಳು ಮತ್ತು ಚರ್ಚೆಗಳ ಮೂಲಕ ಮೌಖಿಕವಾಗಿ ಕಲಿಸಿದರು. ಪುರುಷರು ಮತ್ತು ಮಹಿಳೆಯರು (ಮಕ್ಕಳು ಸಹ) ಈ ಪ್ರವಚನಗಳಿಗೆ ಹಾಜರಾಗಿ ಅವರು ಏನು ಕೇಳಿಕೊಂಡರೋ ಅದನ್ನು ಚರ್ಚಿಸಿದರು. ಬುದ್ಧನ ಯಾವುದೇ ಭೋಧನೆಗಳನ್ನು ಅವನ ಜೀವಿತ ಅವಧಿಯಲ್ಲಿ ಬರೆಯಲಿಲ್ಲ ಅವನ ಮೃತ್ಯುವಿನ ನಂತರದಲ್ಲಿ (ಸುಮಾರು BCE ಐದನೇ-ಆರನೇ ಶತಮಾನ) ಅವನ ಭೋಧನೆಗಳನ್ನು ಅವನ ಶಿಷ್ಯರು 'ಹಿರಿಯರ' ಸಭೆ ಅಥವಾ ಹಿರಿಯ ದಿವ್ಯಗಳ ಸಮ್ಮುಖದಲ್ಲಿ ವೈಶಾಲಿಯಲ್ಲಿ (ಇವತ್ತಿನ ಬಹಾರದಲ್ಲಿ ಪಾಲಿ) ಸಂಗ್ರಹಿಸಲಾಯಿತು. ಈ ಸಂಗ್ರಹಗಳನ್ನು 'ತ್ರಿಪೀಟಕಗಳು' ಎಂದು ಕರೆಯುತ್ತಾರೆ. ವಾಸ್ತವವಾಗಿ ವಿವಿಧ ರೀತಿಯ ಬರಹಗಳನ್ನು ಹಿಡಿದಿರುವ ಮೂರು ಬುಟ್ಟಿಗಳು. ಅವುಗಳನ್ನು ಮೊದಲು ಮೌಖಿಕವಾಗಿ ಪ್ರಸಾರ ಮಾಡಲಾಯಿತು ಮತ್ತು ನಂತರ ಬರೆದ ಮತ್ತು ಅವಧಿ ಮತ್ತು ವಿಷಯ ವಸ್ತುಗಳ ಪ್ರಕಾರ ವಿಂಗಡಿಸಲಾಯಿತು.

ವಿನಯ ಪೀಟಕವು ಸಂಘ ಅಥವಾ ಮಠಗಳಿಗೆ ಸೇರುವವರಿಗೆ ನಿಯಮಗಳು ಮತ್ತು ನಿರ್ಬಂಧಗಳನ್ನು ಒಳಗೊಂಡಿದೆ ; ಬುದ್ಧನ ಭೋಧನೆಗಳನ್ನು ಸುಟ್ಟ ಪೀಟಕದಲ್ಲಿ ಸೇರಿಸಲಾಗಿದೆ ಮತ್ತು ಅಭಿಧಮ್ನ ಪೀಟಕವು ಆಧ್ಯಾತ್ಮ ವಿಷಯಗಳ ಕುರಿತಾಗಿದೆ. ಪ್ರತಿಯೊಂದು ಪೀಟಕವು ಬಹುಸಂಖ್ಯೆಯ ವೈಯಕ್ತಿಕ ಬರಹಗಳನ್ನೊಳಗೊಂಡಿತ್ತು. ನಂತರ ಬೌದ್ಧ ವಿಶ್ವಾಸರಿಂದ ಈ ಬರಹಗಳ ಮೇಲೆ ಧಾಷ್ಯಗಳನ್ನು ಬರೆಯಲಾಯಿತು.

ಬೌದ್ಧ ಧರ್ಮವು ಪೋಷಕ ಪ್ರವೇಶಗಳಾದ ಶ್ರೀಲಂಕಾಕ್ಕೆ ಹರಡಿತು. ಇತರ ಬರಹಗಳಾದ ದೀಪವಂಶ (ವಾಸ್ತವವಾಗಿ ದ್ವಿಪಗಳ ಚರಿತ್ರೆ) ಮತ್ತು ಮಹಾವಂಶ (ಅದ್ಭುತ ಚರಿತ್ರೆ) ಬುದ್ಧರ ಪ್ರದೇಶಕ ಇತಿಹಾಸಗಳನ್ನೊಳಗೊಂಡು ಬರೆಯಲ್ಪಟ್ಟಿತು. ಇವುಗಳ ಹಲವು ಬರಹಗಳು ಬುದ್ಧನ ಆತ್ಮ ಚರಿತ್ರೆಯನ್ನೊಳಗೊಂಡಿದೆ. ಕೆಲವು ಹಳೆಯ ಬರಹಗಳು ಪಾಲಿಯಲ್ಲಿದೆ. ಆದರೆ ನಂತರದ ಸಂಯೋಜನೆಗಳು ಸಂಸ್ಕೃತದಲ್ಲಿದೆ.)

ಯಾವಾಗ ಬೌದ್ಧ ಧರ್ಮವು ಪೂರ್ವ ಏಷ್ಯಾಕ್ಕೆ ಪ್ರಸಾರವಾಯಿತೋ, ಆಗ ಯಾತ್ರಾರ್ಥಿಗಳಾದ ಫಾಕ್ಸಿಯಾನ್ ಮತ್ತು ಹ್ಯೂಯೆನ್ ತ್ಸಾಂಗ್ ಚೀನಾದಿಂದ ಭಾರತಕ್ಕೆ ಬರಹಗಳ ಶೋಧನೆಗೆ ಪ್ರವಾಸ ಮಾಡಿದರು. ಇವುಗಳನ್ನು ತಮ್ಮ ದೇಶಕ್ಕೆ ತೆಗೆದು ಕೊಂಡು ಹೋಗಿ, ಅವನ್ನು ಅಲ್ಲಿ ವಿಶ್ವಾಸಿಗಳಿಂದ ಭಾಷಾಂತರ ಗೊಳಿಸಿದರು. ಭಾರತೀಯ ಬೌದ್ಧ ಶಿಕ್ಷಕರು ಸಹ ಬುದ್ಧನ ಭೋಧನೆಗಳನ್ನು ಪ್ರಸಾರ ಮಾಡಲು ಬರವಣಿಗೆಗಳನ್ನು ಹೊತ್ತು ದೂರದ ಪ್ರದೇಶಗಳಿಗೆ ಪ್ರಯಾಣ ಬೆಳೆಸಿದರು.

ಬೌದ್ಧರ ಬರಹಗಳನ್ನು ಏಷ್ಯಾದ ವಿವಿಧ ಭಾಗಗಳಲ್ಲಿ ಹಸ್ತಕೃತಿಯಲ್ಲಿ ಹಲವು ಶತಮಾನದ ವರೆಗೆ ಸಂರಕ್ಷಿಸಲಾಯಿತು. ಆಧುನಿಕ ಭಾಷಾಂತರವನ್ನು ಪಾಲಿ, ಸಂಸ್ಕೃತ, ಚೀನಿ ಮತ್ತು ಟಿಬೆಟನ್ ಬರಹಗಳಿಂದ ತಯಾರಿಸಲಾಗಿದೆ.

ಕೆಳಗಿನವುಗಳಲ್ಲಿ ಯಾವುದು ತ್ರಿಪೀಟಕದ ಒಂದು ಭಾಗವಲ್ಲ ?

- (1) ಅಭಿಧಮ್ನ
- (2) ವಿನಯ
- (3) ದೀಪವಂಶ
- (4) ಸುಟ್ಟ

Options :

212807119341-1

212807119342-1

212807119343-3

212807119344-4

Question Number : 241 Question Id : 21280719336 Question Type : MCQ Option Shuffling : No Is Question Mandatory : No Calculator : None

Response Time : N.A Think Time : N.A Minimum Instruction Time : 0

Correct Marks : 5 Wrong Marks : 1

Question Key Details :

Key	Value
Comprehension	Compl



### उत्तरा वाचा आणि प्रश्न चे उत्तर लिहा :

बुद्ध ( आणि इतर शिक्षक) मौखिकरित्या चर्चा व वादविवादांद्वारे उपदेश करत. स्त्रिया व पुरुष ( कदाचित लहान मुलेही ) या चर्चेस उपस्थित रहात व आपण काय ऐकले यावर चर्चा करत. बुद्धांच्या जीवनकालात त्यांनी केलेले एकही उपदेश पर भाषण लिहून ठेवले गेले नाही. त्यांच्या मृत्यूनंतर ( इ.स. पू पाचवे-चौथे शतक ) त्यांच्या शिष्यांनी त्यांच्या उपदेशांचे संग्रह करून ठेवले. हे काम “ श्रेष्ठींची समिती ” किंवा ज्येष्ठ भिक्षुंनी वेसाली ( वैशाली चे पाली भाषेतील रूप ) ( वैशाली आजच्या विहारमधे स्थित आहे ) येथे केले. या संग्रहांना तिपिटक म्हणजे शब्दशः विविध ग्रंथ असणारे तीन पेटारे असे म्हटले जाऊ लागले. ते प्रथम मौखिकरित्या व नंतर लिखितरित्या संक्रमित झाले. त्यांचे लांबीनुसार व विषय वस्तुनुसार वर्गीकरण करण्यात आले.

विनय पिटकामध्ये, संघात प्रवेश करून भिक्षु वनाच्यासाठोचे नियम लिहिले आहेत. बुद्धांचा उपदेश सूतापिटकात तर तत्वज्ञानविषयक बाबींचा अभिधम्म पिटकात समावेश आहे. प्रत्येक पिटकात विविध स्वतंत्र ग्रंथ आहेत. नंतर त्यावर बौद्ध विद्वानांनी टीका लिहिली.

जेव्हा बौद्ध धर्माचा बाहेर उदाहरणार्थ श्रीलंकेत प्रसार झाला, तेव्हा दीपवंश ( वेदांची माहिती ) व महावंश ( थोर ग्रंथ ) लिहिले गेले, ज्यात बौद्ध धर्माच्या प्रांतिक इतिहासाचा समावेश आहे. यापैकी अनेक ग्रंथात बुद्धांच्या चरित्राचा समावेश आहे. काही अति प्राचीन ग्रंथ पाली भाषेत आहेत तर त्यानंतरच्या काळातील रचना संस्कृतमध्ये आहेत.

पूर्व आशियामध्ये बौद्ध धर्माचा प्रसार झाल्यानंतर फाहियान व जिआनझांग सारखे प्रवासी चिनमधून भारतात ग्रंथांच्या शोधात आले. हे ग्रंथ ते मायदेशी परत घेऊन गेले, जिथे विद्वानांनी त्यांचे भाषांतर केले. भारतीय बौद्ध उपदेशकांनी देखिल सुदूरच्या प्रदेशात बुद्धांच्या उपदेशाचा प्रसार करण्यासाठी ग्रंथ घेऊन प्रवास केला.

आशिया खंडाच्या विविध भागात बौद्ध संप्रदायांमध्ये बौद्ध ग्रंथांच्या हस्तलिखितांचे जतन केले गेले. पाली, संस्कृत, चिनी व तिबेटी ग्रंथांवरून आधुनिक भाषांतरे तयार केलेली आहेत.

खालीलपैकी काय 'तिपिटकाचा' भाग नाही ?

- (1) अभिधम्म
- (2) विनय
- (3) दीपवंश
- (4) सूत

Options :

- 112807119341 1
- 112807119342 2
- 112807119343 3
- 112807119344 4

Question Number : 241 Question Id : 21280719836 Question Type : MCQ Option Shuffling : No Is Question Mandatory : No Calculator : None  
Response Time : N/A Think Time : N/A Minimum Instruction Time : 0

Correct Marks : 5 Wrong Marks : 1

Question Key Details :

Key	Value
Comprehension	Compl.

താഴെ തന്നിരിക്കുന്ന ഗദ്യഭാഗം വായിച്ച് ഉത്തരം എഴുതുക.

ബുദ്ധനും അതുപോലെ മറ്റ് അധ്യാപകരുചർച്ചകളിലൂടെയും സംവാദങ്ങളിലൂടെയും പഠിപ്പിച്ചു. ഒരുപക്ഷെ കുട്ടികൾ ഉൾപ്പെടെ ആണ്ഡം പെണ്ണും കേട്ടതൊക്കെ ഉൾക്കൊണ്ടു. ബുദ്ധന്റെ ജീവിത കാലത്ത് അദ്ദേഹത്തിന്റെ ഒരു പ്രഭാഷണവും രേഖപ്പെടുത്തപ്പെട്ടിരുന്നില്ല. അദ്ദേഹത്തിന്റെ മരണശേഷം (ബി. സി. 54) അദ്ദേഹത്തെ പിന്തുടരുന്ന ഒരു കൂട്ടം മുതിർന്നവർ ഇതിനെ സ്മരണയ്ക്കായി എഴുതി സൂക്ഷിച്ചത് പാലിയീലാണ്. (പാലിയും വൈശാലിയും ഇന്നത്തെ ബീഹാറിലാണ് )

ഈ ബുക്കുകളെ അറിയപ്പെട്ടത് ത്രിപിറ്റക എന്നാണ്. സാഹിത്യപരമായി മൂന്ന് ബാസ്കറ്റുകളിലാണ് ബുക്കുകൾ സൂക്ഷിച്ചത്. ആദ്യം വാമൊഴിയായി പ്രചരിച്ച ഈ ബുക്കുകൾ പിന്നീട് എഴുതപ്പെടുകയും വിഷയത്തിന്റെയും വലുപ്പത്തിന്റെയും അടിസ്ഥാനത്തിൽ വേർതിരിക്കപ്പെടുകയും ചെയ്തു.

വിനയ പിഠക പ്രധാനമായി പ്രതിപാദിച്ചത് സന്യാസ സംഘത്തിൽ ചേരുന്നവർക്കായുള്ള നിർദ്ദേശങ്ങളും നിയമങ്ങളും ആയിരുന്നു. ബുദ്ധന്റെ മറ്റ് രണ്ട് കൃതികളായ വിനയപിറ്റികയും അഭിതമപിറ്റികയും തത്വശാസ്ത്രപരമായിരുന്നു. ഓരോ പിറ്റികയും കുറച്ചു ബുക്കുകളുടെ കൂട്ടമായിരുന്നു. പിൽക്കാലത്ത് ബുദ്ധ പണ്ഡിതന്മാർ ഇതിന് ആഖ്യാനങ്ങൾ എഴുതി. ശ്രീലങ്ക പോലുള്ള പുതിയ സ്ഥലങ്ങളിൽ സന്ദർശിച്ച ബുദ്ധന കാലഗണ തയ്യാറാക്കാൻ സഹായിക്കുന്നു. ദീപവംശ (ദീപിന്റെ കാലഗണന) മഹാവംശ (മഹത്തായ കാലഗണന) എന്നിവ ബുദ്ധചരിത്രത്തോടൊപ്പം എഴുതി. ചിലതൊക്കെ പാലിയീലാണോ എഴുതപ്പെട്ടതെങ്കിലും പിന്നീട് സംസ്കൃതത്തിലേക്ക് തർജ്ജമ നടത്തി.

ബുദ്ധീസം കീഴക്കൻ ഏഷ്യൻ രാജ്യങ്ങളിലേക്ക് വ്യാപിച്ചപ്പോൾ ചൈനയിൽ നിന്ന് ഫാഹിയൻ, ഹുയാൻ സാങ് എന്നിവർ ഗ്രന്ഥങ്ങൾ അന്വേഷിച്ച് ഇന്ത്യയിലെത്തി. ഇത് അവർ അവരുടെ രാജ്യത്തേക്ക് കൊണ്ടുപോയി. അവർ പണ്ഡിതന്മാരായി തർജ്ജമ ചെയ്തു. ഇന്ത്യയിൽ നിന്നുള്ള ബുദ്ധ സന്യാസിമാരും ലോകത്തിന്റെ പലവശത്തേക്ക് യാത്രചെയ്ത് ബുദ്ധന്റെ ആശയങ്ങൾ ജനങ്ങളിലേക്ക് എത്തിച്ചു.

ബുദ്ധമത ഗ്രന്ഥങ്ങളുടെ കൈയെഴുത്തു പ്രതികൾ ഏഷ്യയിലെ വിവിധ ഭാഗങ്ങളിൽ സൂക്ഷിച്ചിരിക്കുന്നു. പുതിയ വിവർത്തനങ്ങൾ പാലിയീലും സംസ്കൃതത്തിലും ടിബറ്റൻ ഭാഷയിലും ചൈനീസിലും ഉണ്ടായി.

ത്രിപിറ്റികയിൽ വരാത്തത് എന്ന് ?

- (1) അഭിതമ
- (2) വിനയ
- (3) ദീപവംശ
- (4) സൂത

Options :  
 212807119341-1  
 212807119342-1  
 212807119343-3  
 212807119344-4

Question Number : 141 Question Id : 21280719636 Question Type : MCQ Option Shuffling : No Is Question Mandatory : No Calculator : None  
 Response Time : N/A Think Time : N/A Minimum Instruction Time : 0  
 Correct Marks : 5 Wrong Marks : 1

Question Key Details :

Key	Value
-----	-------

ଅନୁଲ୍ଲେଖକଙ୍କୁ ପଢ଼ନ୍ତୁ ଏବଂ ନିମ୍ନଲିଖିତ ପ୍ରଶ୍ନର ଉତ୍ତର ଦିଅନ୍ତୁ ।

ହୁଏ (ଏବଂ ଆ ବୁଝାମଣା) ମୌଖିକ ରୂପରେ ଶିକ୍ଷା ଦେବାକୁ - ଆନୁଷ୍ଠାନିକ ଆଲୋଚନା ମାଧ୍ୟମରେ । ସ୍ତ୍ରୀ ଏବଂ ପୁରୁଷ (ଏମିତିକି ପିଲାମାନେ ମଧ୍ୟ) ତାଙ୍କର ସଭୁତା ଯୋଗଦେବାକୁ ଏବଂ ଯାହା ଶୁଣୁଥିଲେ ତାହା ଆଲୋଚନା କରୁଥିଲେ । ଦୁଇଜଣ କାହାଙ୍କ ସମ୍ମୁଖରେ ତାଙ୍କର କୌଣସି କଥା ଲିପିବଦ୍ଧ ହୋଇନଥିଲା । ତାଙ୍କର ମୃତ୍ୟୁ ପରେ, ତାଙ୍କର ଶିକ୍ଷାମାନଙ୍କର ଦ୍ଵାରା ତାଙ୍କର ଶିକ୍ଷାକୁ ଲିପିବଦ୍ଧ କରାଯାଇଥିଲା, ଯାହାକି ବନ୍ଧୁକୋଷ ନ୍ୟାସି ଏବଂ କନ୍ୟାକୋଷ (ମାତୃ) ବିଶ୍ଵମାନଙ୍କର ଏକ ସଭା ଯାହାକି ବୈଶାକୀ (ପାଲି ବର୍ଣ୍ଣମାନଙ୍କ ବିଦ୍ୟାଳୟ) । ଏହି ସଭାକି ବହିଗୁଡ଼ିକୁ ଲିପିବଦ୍ଧ କରାଯାଇଥିଲା । - ସ୍ଵତନ୍ତ୍ର ଭିକାରୀ ଚାହିଁ, ତିନି ପ୍ରକାରର ଅନୁଲ୍ଲେଖ ଗଢ଼ିବା ପାଇଁ ।

ଯେଉଁମାନେ ସଂଘ ଯୋଗଦେଇଥିଲେ ସେମାନଙ୍କ ପାଇଁ ବିକାରୀ ପିତାଙ୍କରେ ନିୟମାବଳୀ ଲିପିବଦ୍ଧ ଥିଲା; ଦୁଇଜଣ ଶିକ୍ଷା ସ୍ଵତନ୍ତ୍ର ପିତାଙ୍କରେ ଲିପିବଦ୍ଧ ହୋଇଥିଲା ଏବଂ ଅଭିଧାନ ପିତାଙ୍କରେ ପିଲାବୋପିତାଙ୍କ ବିଷୟବସ୍ତୁ ଥିଲା । ପୁତ୍ର ପିତାଙ୍କରେ ଏକାଧିକ ଅନୁଲ୍ଲେଖ ରହିଥିଲା । ପରବର୍ତ୍ତୀ ସମୟରେ କୌଣସି ଗୁରୁମାନଙ୍କର ଭାଗଣ ଲିପିବଦ୍ଧ ଥିଲା ।

ଶ୍ରୀଲଙ୍କା ଭଳି ନୂଆ ଆଞ୍ଚଳକୁ କୌଣସି ଧର୍ମ ବ୍ୟାପିଲା ପରେ ବିଭିନ୍ନ ଅନୁଲ୍ଲେଖ ଯଥା - ବିପ୍ଳବୀୟ (କ କ୍ଳେମିକାଲ୍ ଅଫ୍ ଦ ଆଲମ୍ପାକ୍) ଲେଖାଯାଇଥିଲା ଯେଉଁଥିରେ କି କୌଣସି ଧର୍ମର ଆଞ୍ଚଳିକ ଉଦ୍ଦିଷ୍ଟ ଲେଖାଯାଇଥିଲା । ପ୍ରାରମ୍ଭିକ ଅନୁଲ୍ଲେଖଗୁଡ଼ିକ ପାଲିଭାଷାରେ, ଏବଂ ପରବର୍ତ୍ତୀ ଅନୁଲ୍ଲେଖଗୁଡ଼ିକ ସଂସ୍କୃତ ଭାଷାରେ ଲିପିବଦ୍ଧ ହୋଇଥିଲା ।

କୌଣସି ଧର୍ମ ପୂର୍ବ ଏସିଆକୁ ପ୍ରସାର ହେବାପରେ, ପାହିଆନ ହୁଏନସାଂ ପୁସ୍ତକ ସମ୍ପାଦନରେ ବାବୁ ଲାଭ ଆସିଲେ । ସେମାନେ ନିଜ ଦେଶକୁ ଗଲାବେଳେ ବିଭିନ୍ନ ଦ୍ଵାରା ଅନୁବାଦ କେଲେଲେ । ଲାଭରାୟ କୌଣସି ଗୁରୁ ମଧ୍ୟ ଅନେକ ଦୂର ପରିଭ୍ରମଣ କଲେ, ସାଥରେ ପୁସ୍ତକ ନେଇ ଦୁର୍ଦ୍ଦଳ ଶିକ୍ଷାକୁ ପ୍ରସାର କରିବା ଉଦ୍ଦେଶ୍ୟରେ ।

ଏସିଆର ବିଭିନ୍ନ ଦେଶରେ କୌଣସି ପୁସ୍ତକଗୁଡ଼ିକୁ ପାଣ୍ଡୁରିପି ଭାବେ କୌଣସିଠରେ ରଖାଯାଇଛି । ଆଧୁନିକ ଅନୁବାଦ ସବୁ ପାଲି, ତାଳିକ, ସଂସ୍କୃତ ଏବଂ ଚିତ୍ତରିୟ ପାଠ୍ୟ ପୁସ୍ତକରୁ ପ୍ରସ୍ତୁତ ହୋଇଛି ।

ନିମ୍ନଲିଖିତ ମଧ୍ୟରୁ କେଉଁଟି ତ୍ରିପିତକର ଅଂଶ ବିଶେଷ ନୁହେଁ ?

- (1) ଅଭିଧାନ
- (2) ବିକାର
- (3) ବିପ୍ଳବୀୟ
- (4) ସ୍ଵତନ୍ତ୍ର

Options :

112807119341 1

212807119342 2

312807119343 3

412807119344 4

Question Number : 241 Question Id : 21280729836 Question Type : MCQ Option Skuffling : No Is Question Mandatory : No Calculator : None

Response Time : N.A Think Time : N.A Minimum Instruction Time : 0

Correct Marks : 5 Wrong Marks : 1

Question Key Details :

Key	Value
Comprehension	Comp1

ਪੈਰੋ ਨੂੰ ਪੜ੍ਹੋ ਅਤੇ ਨਿਮਨਲਿਖਤ ਪ੍ਰਸ਼ਨ ਦੇ ਉਤਰ ਦਿਓ।

ਬੁੱਧ (ਅਤੇ ਹੋਰ ਗੁਰੂਆਂ) ਨੇ ਮੌਖਿਕ ਰੂਪ ਵਿਚ ਚਰਚਾ ਅਤੇ ਬਹਿਸ ਰਾਹੀਂ ਸਿੱਖਿਆਵਾਂ ਦਿੱਤੀਆਂ। ਆਦਮੀ, ਔਰਤਾਂ (ਸਾਇਦ ਬੱਚੇ ਵੀ) ਇਨ੍ਹਾਂ ਪ੍ਰਵਚਨਾਂ ਨੂੰ ਸੁਣਦੇ ਅਤੇ ਚਰਚਾ ਕਰਦੇ। ਬੁੱਧ ਦੇ ਜੀਵਨ-ਕਾਲ ਦੌਰਾਨ ਬੁੱਧ ਦਾ ਕੋਈ ਵੀ ਪ੍ਰਵਚਨ ਲਿਖਤ ਵਿਚ ਨਹੀਂ ਆਇਆ। ਬੁੱਧ ਦੀ ਮੌਤ (ਪੰਜਵੀਂ-ਚੌਥੀ ਸਦੀ ਈ.ਪੂ.) ਤੋਂ ਬਾਅਦ ਉਸਦੇ ਸਭ ਤੋਂ ਵੱਡੇ ਚੇਲਿਆਂ ਨੇ ਵੈਸ਼ਾਲੀ (ਵਰਤਮਾਨ ਸਮੋਂ ਦੇ ਬਿਹਾਰ ਵਿਚ ਵੈਸ਼ਾਲੀ ਲਈ ਪਾਲੇ) ਵਿਚ ਇਨ੍ਹਾਂ ਮੌਖਿਕ ਪ੍ਰਵਚਨਾਂ ਨੂੰ ਸੰਕਲਨ ਕੀਤਾ। ਸਾਹਿਤਕ ਤੌਰ 'ਤੇ ਇਨ੍ਹਾਂ ਸੰਕਲਨ ਨੂੰ ਤਿਪਿਤਕਾ ਗ੍ਰੰਥ ਕਿਹਾ ਜਾਂਦਾ ਹੈ, ਜਿਸਦਾ ਅਰਥ ਹੈ ਟੋਕਰੀ ਜਿਸ ਵਿਚ ਤਿੰਨ ਅੱਲਗ ਕਿਸਮ ਦੀਆਂ ਕਿਤਾਬਾਂ ਰੱਖੀਆਂ ਜਾਂਦੀਆਂ ਹਨ। ਪਹਿਲਾਂ ਉਨ੍ਹਾਂ ਦਾ ਮੌਖਿਕ ਰੂਪਾਂਤਰ ਕੀਤਾ ਗਿਆ, ਬਾਅਦ ਵਿਚ ਲਿਖਤੀ ਹੋਇਆ ਅਤੇ ਇਨ੍ਹਾਂ ਦੀ ਵਰਗ ਵੰਡ ਆਕਾਰ ਅਤੇ ਵਿਸ਼ੇ ਦੇ ਆਧਾਰ ਤੇ ਕੀਤੀ ਗਈ।

ਵਿਨਯਪਟਿਕ ਗ੍ਰੰਥ ਵਿਚ ਸੰਘ ਵਿਚ ਸ਼ਾਮਿਲ ਹੋਣ ਵਾਲੇ ਵਿਅਕਤੀਆਂ ਲਈ ਨਿਯਮ ਦਰਜ ਹਨ। ਮਹਾਰਾਮਾ ਬੁੱਧ ਦੀਆਂ ਸਿੱਖਿਆਵਾਂ ਸੁਤ ਪਟਿਕਾ ਗ੍ਰੰਥ ਵਿਚ ਦਰਜ ਹਨ। ਦਾਰਸ਼ਨਿਕ ਪੱਧਰੀਆਂ ਬਾਰੇ ਅਭਿਧੰਮ ਪਟਿਕਾ ਗ੍ਰੰਥ ਵਿਚ ਜਾਣਕਾਰੀ ਮਿਲਦੀ ਹੈ। ਹਰੇਕ ਪਟਿਕਾ ਦੇ ਆਪਣੇ ਗ੍ਰੰਥ ਵੀ ਹਨ। ਬੋਧੀ ਵਿਚਾਰਕਾਂ ਦੁਆਰਾ ਟਿਪੋਟੀਆਂ ਵੀ ਦਰਜ ਕੀਤੀਆਂ ਗਈਆਂ ਹਨ।

ਬੁੱਧ ਧਰਮ ਸ਼੍ਰੀਲੰਕਾ ਵਿਚ ਪਹੁੰਚਿਆ ਤਾਂ ਦੀਪਾਵਸਸਾ (ਟਾਪੂ ਦੀ ਲੜੀ) ਅਤੇ ਮਹਾਂਵਾਸਸਾ ਗ੍ਰੰਥ ਰਚੇ ਗਏ। ਇਨ੍ਹਾਂ ਵਿਚ ਬੁੱਧ ਧਰਮ ਦੀਆਂ ਖੇਤਰੀ ਕਹਾਣੀਆਂ ਦਰਜ ਹਨ। ਇਨ੍ਹਾਂ ਵਿਚ ਬੁੱਧ ਦੇ ਜੀਵਨ ਦਾ ਸ਼ਿਕਰ ਵੀ ਹੈ। ਸਭ ਤੋਂ ਪੁਰਾਣੀਆਂ ਲਿਖਤਾਂ ਪਾਲੀ ਭਾਸ਼ਾ ਵਿਚ ਹਨ ਜਦਕਿ ਸਮਾਂ ਬੀਤਣ ਨਾਲ ਇਨ੍ਹਾਂ ਨੂੰ ਸੰਸਕ੍ਰਿਤ ਭਾਸ਼ਾ ਵਿਚ ਅਨੁਵਾਦਤ ਕਰ ਦਿਤਾ ਗਿਆ।

ਜਦੋਂ ਬੁੱਧ ਧਰਮ ਪੂਰਬ ਵੱਲ ਫੈਲਿਆ ਤਾਂ "ਫਾ ਹੀਯਾਨ" ਅਤੇ "ਜੂ ਯਾਂਗ" ਨੇ ਇਨ੍ਹਾਂ ਲਿਖਤਾਂ ਦੀ ਭਾਲ ਲਈ ਚੀਨ ਤੋਂ ਭਾਰਤ ਦੀ ਯਾਤਰਾ ਕੀਤੀ। ਫਿਰ ਉਹ ਇਨ੍ਹਾਂ ਲਿਖਤਾਂ ਨੂੰ ਆਪਣੇ ਦੇਸ਼ ਲੈ ਗਏ ਅਤੇ ਆਪਣੀ ਭਾਸ਼ਾ ਵਿਚ ਇਨ੍ਹਾਂ ਗ੍ਰੰਥਾਂ ਦਾ ਅਨੁਵਾਦ ਕੀਤਾ। ਭਾਰਤੀ ਬੋਧੀ ਗੁਰੂ ਬੁੱਧ ਦੀਆਂ ਸਿੱਖਿਆਵਾਂ ਨੂੰ ਸੰਸਾਰ ਦੇ ਅਲੱਗ-ਅਲੱਗ ਦੇਸ਼ਾਂ ਵਿਚ ਲੈ ਕੇ ਗਏ।

ਏਸ਼ੀਆ ਦੇ ਅਲੱਗ ਅਲੱਗ ਹਿੱਸਿਆਂ ਵਿਚ ਬੋਧੀ ਮੱਠਾਂ ਵਿਚ ਇਹ ਰਚਨਾਵਾਂ ਸਾਂਭ ਕੇ ਰੱਖੀਆਂ ਗਈਆਂ ਹਨ। ਬੋਧੀ ਰਚਨਾਵਾਂ ਦੇ ਵਰਤਮਾਨ ਰੂਪਾਂਤਰ ਪਾਲੀ, ਸੰਸਕ੍ਰਿਤ, ਚੀਨੀ ਅਤੇ ਤਿੱਬਤੀ ਭਾਸ਼ਾ ਤੋਂ ਕੀਤੇ ਗਏ ਹਨ।

ਹੇਠ ਲਿਖਿਆਂ ਵਿੱਚੋਂ ਕਿਹੜਾ ਤਿਪਿਤਕਾ ਦਾ ਹਿੱਸਾ ਨਹੀਂ ਹੈ?

- (1) ਅਭਿਧੰਮਾ
- (2) ਵਿਨਯ
- (3) ਦੀਪਾਵਸਸਾ
- (4) ਸੁਤਾ

Options :

212807119341 1

212807119342 2

212807119343 3

212807119344 4

Question Number : 241 Question Id : 21280729836 Question Type : MCQ Option Shuffling : No Is Question Mandatory : No Calculator : None

Response Time : N.A Think Time : N.A Minimum Instruction Time : 0

Correct Marks : 5 Wrong Marks : 1

Question Key Details :

Key	Value
Comprehension	Compl

கீழ்க்காணும் பத்தியைப் படித்து வினாக்களுக்கு விடையளிக்கவும்.

புத்தரும் (ஏனைய இதர போதகர்களும்) விலாதங்கள், கலந்துரையாடல்கள் மூலம் வாய்மொழியாக கூறியுள்ளார். ஆண்கள், பெண்கள் மற்றும் குழந்தைகளும் இந்த கலந்துரையாடல்களில் கலந்து கொண்டனர். தாங்கள் கேட்டவை குறித்து விவாதித்தனர். புத்தரின் சொற்பொழிவுகள் எதுவும், அவர் வாழ்ந்த காலத்தில் எழுதி வைக்கப்படவில்லை. அவர் காலமானதற்கு பிறகு (கி.மு. 3-4 -ஆம் நூற்றாண்டு) அவருடைய சீடர்கள், மூத்தவர்கள் அல்லது பெரியவர்கள் அடங்கிய சபையில், வெசாலி என்ற இடத்தில் (வைசாலி பாலி மொழியில்) இவற்றை ஒன்று திரட்டினர். இவை 'திரிபீடகா' என்று (மூன்று கூடைகள்) பல்வேறு நூல்கள் கொண்ட தொகுப்பாகும். முதலில் வாய்மொழியாகக் கூறப்பட்ட இவை, பின்னர், நூல்களாக எழுதப்பட்டு, அவற்றின் நீளம் மற்றும் விஷயத்தின் அடிப்படையில் பிரிக்கப்பட்டன.

சங்கம் அல்லது பௌத்த விகாரத்தில் இணைந்தவர்களுக்காக விதிகள் மற்றும் நெறிமுறைகள் விளைய பீடகாவில் இடம் பெற்றன. புத்தரின் போதனைகள் சுத்த பீடகாவிலும், தத்துவவார்த்த விஷயங்கள் அபிதம்ம பீடகாவிலும் இடம் பெற்றன. ஒவ்வொரு பீடகாவிலும் தனித்தனியான பல நூல்கள் இடம் பெற்றிருந்தன. பின்னர் இந்த நூல்கள் குறித்து பௌத்த சான்றோர் வர்ணனைகள்/சுருத்துக்கள் எழுதினர்.

இலங்கை போன்ற இதர புதிய பிராந்தியங்களுக்கு பௌத்தம் பரவிய போது, அந்த பிராந்தியங்களின் பௌத்த வரலாறுகள் அடங்கிய தீபவம்சம் (தீவு-காலவரிசை) மற்றும் மஹாவம்சம் (மகத்தான காலவரிசை) ஆகியன எழுதப்பட்டன. பெரும்பாலான இந்த நூல்களில் புத்தரின் வாழ்க்கை வரலாறு எழுதப்பட்டிருந்தன. சில பழமைபான புத்தகங்கள் யாலி மொழியில் உள்ளன. இவை பின்னர் சமஸ்கிருத மொழியில் எழுதப்பட்டன.

மொத்த கீழ்க்காசியாவிற்கு பௌத்தம் பரவிய போது, பாஹியான் மற்றும் புலான் சுவாங் சீனாவிலிருந்து இந்தியாவிற்கு இந்த நூல்களைத் தேடி வந்தனர். இவற்றை அவர்கள் தங்கள் சொந்த நாட்டிற்கு கொண்டு சென்றனர். அங்கு அவை சான்றோர்களால் மொழி பெயர்க்கப்பட்டன. புத்தரின் போதனைகளை எடுத்துரைக்க, இந்திய பௌத்த போதகர்கள், பௌத்த நூல்களை தொலைதூர இடங்களுக்கு கொண்டு சென்றனர்.

ஆசியாவின் பல்வேறு பௌத்த மடாலயங்களில், பௌத்த நூல்களின் கையெழுத்துப் பிரதிகள் பல நூற்றாண்டுகளுக்கு பாதுகாக்கப்பட்டன. பாலி, சமஸ்கிருதம், சீனம் மற்றும் திபெத்திய நூல்களில் இருந்து நவீன மொழி பெயர்ப்புகள் செய்யப்பட்டன.

கீழ்க்காண்பதில் எது திரிபீடகாவின் அங்கம் இல்லை ?

- (1) அபிதம்மா
- (2) விளயா
- (3) தீபவம்சா
- (4) சுத்தா

Options :

212807119341 1

212807119342 2

212807119343 3

212807119344 4

Question Number : 241 Question Id : 21280729836 Question Type : MCQ Option Shuffling : No Is Question Mandatory : No Calculator : None Response Time : N/A Think Time : N/A Minimum Instruction Time : 0

Correct Marks : 5 Wrong Marks : 1

Question Key Details :

Key	Value
Comprehension	Comp1

కింది గద్యాంశం చదివి ప్రశ్నలకు సమాధానం ఇవ్వండి :

బుద్ధుడు (మరియు ఇతర ఉపాధ్యాయులు) మౌలికముగా తర్కములు మరియు వాదనలతో బోధించారు. పురుషులు మరియు స్త్రీలు (పిల్లలు కూడా) ఈ సంభాషణలు అనుసరించారు మరియు వారు ఏమి విన్నాలో చర్చించుకున్నారు. బుద్ధుని ఏ ఒక్క భాషణములు అతని జీవితకాలంలో వ్రాయలేదు. తన మరణానంతరం (c. 54 శతాబ్దం BCE) వైసాలి వద్ద (ప్రస్తుత పీషార్లో వైసాలి కొరకు పాలి) వృద్ధ సాధువులు లేదా కౌన్సిల్ లోని పెద్దవారి వద్ద శిష్యులు తన బోధనలని సమకూర్చారు. ఈ సమకూర్పులు త్రిపీటికంగా పిలవబడ్డాయి-సాహిత్యంగా విభిన్న రచనలను చేర్చుటకు మూడు ఋట్టలు. అవి మొదటగా వోటితో ప్రచారం చేయబడి తర్వాత వాటి పొడవు మరియు విషయం ప్రకారం రచించబడి వేరు చేయబడ్డాయి.

వినయ పీటకం సంఘంలో చేరిన వారి లేదా సార్లు క్రమం యొక్క నియమ నిబంధనలు కలిగి ఉంది. సుత్త పీటికలో బుద్ధుని బోధనలు మరియు అభిదమ్మ పీటకంలో తత్వశాస్త్ర విషయాలు ఉన్నాయి. ప్రతి పీటకం అఖండమైన రచనలు కలిగి ఉంది. తర్వాత బౌద్ధ నిపుణలచే రచనలపై వ్యాఖ్యానాలు చేయబడ్డాయి.

బౌద్ధమతం శ్రీలంకకు విస్తరించినపుడు, దీపవంశం (సాహిత్యంగా ద్వీప చరిత్ర) మహావంశం (గొప్ప చరిత్ర) అనే బౌద్ధ మత చరిత్రను కలిగిన రచనలు చేయబడ్డాయి. వీటిలో చాలా బుద్ధుడి ఆత్మకథలు. వీటిలో కొన్ని పురాతన రచనలు పాలిలో మరియు తర్వాత సంస్కృతంలో రచించబడ్డాయి.

తూర్పు అసియాకి బౌద్ధమతం వ్యాపించినపుడు ఫా టియాన్ మరియు జ్యాన్ జాంగ్ అను ఇద్దరు టెక్టులు చైనా నుండి అందియాకి ఈ రచనలను వెతుకుతూ ప్రయాణించారు. వీటిని వారి దేశానికి తీసుకెళ్ళి అక్కడ నిపుణులచే అనువదించారు. బుద్ధుని బోధనలు ప్రచారం చేయడానికి ఈ రచనలని భారత బౌద్ధులు కూడా చాలా దూరం తీసుకెళ్ళారు. బుద్ధుని రచనలు చాలా శతాబ్దాలు అసియా లోని వివిధ ప్రాంతాల ఆశ్రమాలలో ప్రతులుగా సంరక్షించబడ్డాయి. పాలి, సంస్కృతం, చైనీస్ మరియు టిబెటన్ రచనల నుండి ఆధునిక అనువాదములు తయారుచేయబడ్డాయి.

త్రిపీటకం భాగాలు కానివి ఏవి ?

- (1) అభిదమ్మ
- (2) వినయ
- (3) దీపవంశం
- (4) సుత్త

Options :

- 112807119341 1
- 112807119342 2
- 112807119343 3
- 112807119344 4

Question Number : 241 Question Id : 21280719836 Question Type : MCQ Option Shuffling : No Is Question Mandatory : No Calculator : None :  
Response Time : NA Think Time : NA Minimum Instruction Time : 0

Correct Marks : 5 Wrong Marks : 1

Question Key Details :

Key	Value
-----	-------

اقتباس پڑھیں اور سوالوں کے جواب لکھیں۔

بدھا (اور دیگر اساتذہ) نے لڑھائی پڑھایا۔ مباحث اور استدلال کے ذریعے مرزا اور مورت (شاید بچے بھی) اس کے گفتگو کو سننے آتے تھے اور جوسنتے تھے اس پر بحث کرتے تھے۔ بدھا کی زندگی میں ان کی کوئی بھی تقریر نہیں لکھی گئی۔ ان کی رحلت کے بعد (4th-5th BC) وپاسی (پالی میں ویٹالی) میں ان کے شاگردوں نے ان کی تعلیمات کو بڑے سادہ و پابندوں کی کونسل میں جمع کیا۔ ان تعلیمات کو ٹیپٹاک (Tipitaka) کہتے ہیں۔ جبکہ لفظی معنی ہے تین ٹوکریاں الگ الگ طرح کی تحریروں کو رکھتے کیلئے وہ پہلے زبانی منتقل کی گئیں اور پھر لکھی گئیں اور ان کو لمبائی اور موضوع کے حساب سے تقسیم کیا گیا۔

ونے پٹک (Vinay Pitaka) میں ساگھا شامل ہونے والوں یا درویش طبقہ میں شامل ہونے والوں کیلئے اصول و ضوابط ہیں۔

بدھ ازم نے نئے علاقوں کا سفر کیا جیسے سری لنکا اور دوسری تصانیف جیسے دیپاوامس (Dipavamsa) جزیرے کی تاریخ اور مہاوامس (Mahavamsa) بڑی تاریخ و ستاویز لکھی گئی۔ جس میں بدھا ازم کی علاقائی تاریخ ان میں سے کچھ تحریریں بدھا کی سوانح ہیں۔ قدیم تحریریں پالی میں ہیں جبکہ بعد کی مرتب تصانیف سنسکرت میں۔

بدھا ازم جب پورے مشرقی ہندوستان میں پھیل گیا تو کچھ یا تری جیسے کہ فاہیان (Faxian) اور زوان زانگ (XuanZang) و دیگر چینیوں سے ہوتے ہوئے تصانیف کی تلاش میں ہندوستان پہنچے۔ وہ تصانیف واپس اپنے ملک لے گئے جہاں اسکا لرنے ان کا ترجمہ کیا۔

ہندوستانی بودھی اساتذہ دور دراز علاقوں کے سفر کے کتابوں کے ساتھ بدھا ازم کی تبلیغ کر کے پھیلایا۔

بودھی تحریروں کے مخطوطات کو صدیوں تک ایشیا کے مختلف محافظ خانوں میں محفوظ رکھا گیا ہے۔ جدید ترجمہ نگاروں نے پالی، تبتی اور چینی تحاریر سے اس کو تیار کیا۔

مندرجہ ذیل میں سے کونسا تری پٹک کا (Tipitaka) کا حصہ نہیں ہے۔

(1) ابھیدھامہ (Abhidhamma)

(2) وینایا (Vinaya)

(3) دیپاوامس (Dipavamsa)

(4) سوتا (Sutta)

Options :

212907119341 1

212907119342 2

212907119343 3

212907119344 4

Question Number : 242 Question Id : 21290719537 Question Type : MCQ Option Shuffling : No Is Question Mandatory : No Calculator : None

Response Time : N.A Think Time : N.A Minimum Instruction Time : 0

Correct Marks : 5 Wrong Marks : 1

Question Key Details :

Key	Value
Comprehension	Comp1

**Read the passage and answer the question :**

The Buddha (and other teachers) taught orally - through discussions and debates. Men and women (perhaps children as well) attended these discourses and discussed what they heard. None of the Buddha's speeches were written down during his lifetime. After his death (c. fifth-fourth century BCE) his teachings were compiled by his disciples at a council of "elders" or senior monks at Vesali (Pali for Vaishali in present-day Bihar). These compilations were known as Tipitaka - literally, three baskets to hold different types of texts. They were first transmitted orally and then written and classified according to length as well as subject matter.

The Vinaya Pitaka included rules and regulations for those who joined the sangha or monastic order; the Buddha's teachings were included in the Sutta Pitaka; and the *Abhidhamma Pitaka* dealt with philosophical matters. Each *pitaka* comprised a number of individual texts. Later, commentaries were written on these texts by Buddhist scholars.

As Buddhism travelled to new regions such as Sri Lanka, other texts such as the *Dipavamsa* (literally, the chronicle of the island) and *Mahavamsa* (the great chronicle) were written, containing regional histories of Buddhism. Many of these works contained biographies of the Buddha. Some of the oldest texts are in Pali, while later compositions are in Sanskrit.

When Buddhism spread to East Asia, pilgrims such as Fa Xian and Xuan Zang travelled all the way from China to India in search of texts. These they took back to their own country, where they were translated by scholars. Indian Buddhist teachers also travelled to faraway places, carrying texts to disseminate the teachings of the Buddha.

The Buddhist texts were preserved in manuscripts for several centuries in monasteries in different parts of Asia. Modern translations have been prepared from Pali, Sanskrit, Chinese and Tibetan texts.

In which Buddhist text philosophical matters were discussed ?

- (1) Sutta Pitaka
- (2) Vinaya Pitaka
- (3) Abhidhamma Pitaka
- (4) Mahavamsa

Options :

212807119345 1

212807119346 2

212807119347 3

212807119348 4

Question Number : 242 Question Id : 21280719537 Question Type : MCQ Option Shuffling : No Is Question Mandatory : No Calculator : None

Response Time : N.A Think Time : N.A Minimum Instruction Time : 0

Correct Marks : 5 Wrong Marks : 1

Question Key Details :

Key	Value
Comprehension	Comp1



निम्नलिखित गद्यांश को पढ़कर नीचे दिये गये प्रश्न का उत्तर दीजिए :

बुद्ध (अन्य शिक्षकों की तरह) चर्चा और बातचीत करते हुए मौखिक शिक्षा देते थे। महिलाएँ और पुरुष (शावद बच्चे भी) इन प्रवचनों को सुनते थे और इन पर चर्चा करते थे। बुद्ध के किसी भी संभाषण को उनके जीवन काल में लिखा नहीं गया। उनकी मृत्यु के बाद (पाँचवीं-चौथी सदी ई.पू.) उनके शिष्यों ने 'ज्योष्ठों' या ज्यादा वरिष्ठ श्रमणों को एक सभा वेसली (बिहार स्थित वैशाली का पालि भाषा में रूप) में बुलाई। वहाँ पर ही उनकी शिक्षाओं का संकलन किया गया। इन संग्रहों को 'त्रिपिटक' (शब्दार्थ भिन्न प्रकार के ग्रंथों को रखने के लिए 'तीन टोकरियाँ') कहा जाता था। पहले उन्हें मौखिक रूप से ही संप्रेषित किया जाता था। बाद में लिखकर विषय और लंबाई के अनुसार वर्गीकरण किया गया।

विनय पिटक में संघ या बौद्ध मठों में रहने वाले लोगों के लिए नियमों का संग्रह था। बुद्ध की शिक्षाएँ *सुत्त पिटक* में रखी गईं और दर्शन से जुड़े विषय *अभिधम्म पिटक* में आए। हर पिटक के अंदर कई ग्रंथ होते थे। बाद के युगों में बौद्ध विद्वानों ने इन ग्रंथों पर टोकारें लिखीं।

जब बौद्ध धर्म श्रीलंका जैसे नए इलाकों में फैला *दीपवंश* (द्वीप का इतिहास) और *महावंश* (महान इतिहास) जैसे क्षेत्र-विशेष के बौद्ध इतिहास को लिखा गया। इनमें से कई रचनाओं में बुद्ध की जीवनी लिखी गई है। ज्यादातर पुराने ग्रंथ पालि में हैं। बाद के युगों में संस्कृत में ग्रंथ लिखे गए।

जब बौद्ध धर्म पूर्व एशिया में फैला तब फा-शिअन और श्वैन त्सांग जैसे तीर्थयात्री बौद्ध ग्रंथों की खोज में चीन से भारत आए। ये पुस्तकें वे अपने देश ले गए जहाँ विद्वानों ने इनका अनुवाद किया। हिन्दुस्तान के बौद्ध शिक्षक भी दूर-दराज के देशों में गए। बुद्ध की शिक्षाओं का प्रसार करने के लिए वे कई पुस्तकें भी अपने साथ ले गए।

कई सदियों तक ये पांडुलिपियाँ एशिया के भिन्न-भिन्न इलाकों में स्थित बौद्ध विहारों में संरक्षित थीं। पालि, संस्कृत, चीनी और तिब्बती भाषाओं में लिखे इन ग्रंथों से आधुनिक अनुवाद तैयार किए गए हैं।

कौन-से बौद्ध ग्रंथ दार्शनिक तत्वों का विवेचन है ?

- (1) सुत्त पिटक
- (2) विनय पिटक
- (3) अभिधम्म पिटक
- (4) महावंश

Options :

- 212807119345 1  
212807119346 2  
212807119347 3  
212807119348 4

Question Number : 242 Question Id : 21280719837 Question Type : MCQ Option Shuffling : No Is Question Mandatory : No Calculator : None  
Response Time : N/A Think Time : N/A Minimum Instruction Time : 0

Correct Marks : 5 Wrong Marks : 1

Question Key Details :

Key	Value
Comprehension	Compl

তলৰ পাঠ্যংশ আৰু প্ৰশ্নসমূহৰ উত্তৰ দিয়া :

গৌতম বুদ্ধ (আৰু অনা শিক্ষকসকলে) মৌখিকভাৱে শিক্ষা প্ৰদান কৰিছিল, আলোচনা আৰু তৰ্কৰ যোগেৰে। পুৰুষ আৰু মহিলা (কেতিয়াবা শিশু) এই বস্তুতাবেশত উপস্থিত আছিল আৰু তেওঁলোকে শুনা কথাবোৰ আলোচনা কৰিছিল। বুদ্ধৰ জীৱন কালত তেওঁৰ কোনো বস্তুতাবেশ ক'তো লিখা হোৱা নাছিল। তেওঁৰ মৃত্যুৰ পিছত (খৃষ্টপূৰ্ব পঞ্চম-চতুৰ্থ শতিকাত) তেওঁৰ শিক্ষা আৰু লিখনসমূহ সংকলিত কৰিছিল তেওঁৰ শিষ্যসকলে একম 'প্ৰাচীন' পৰিষদত মতুবা (মোংক) সন্মাসীসকল বৈশালীত (পালি বৈশালীক কোৱা হয়, বৰ্তমানৰ বিহাৰত অৱস্থিত) এই সংকলনসমূহ ত্ৰিপিটক ৰূপে জনা যায়, তিনি প্ৰকাৰৰ টোপোলা বিভিন্ন ধৰণৰ লিখনি ৰাখিবলৈ। প্ৰথমতে তেওঁলোকে মন্ত্ৰ পাঠ কৰে মৌখিক ৰূপত আৰু তাৰ পিছত লিখিছিল আৰু শ্ৰেণীভুক্ত কৰিছিল তাৰ বিষয় আৰু সৈফাত অনুসৰি।

দিনয় পিতকত সংঘ বা মঠ-মন্দিৰত যোগদান কৰাসকলৰ বাবে নিয়ম-নীতি অন্তৰ্ভুক্ত কৰা হৈছিল, বুদ্ধৰ শিক্ষা সুত্ত পিটকত অন্তৰ্ভুক্ত কৰা হৈছিল আৰু অভিবশ্মা পিটকত দাৰ্শনিক বিষয়সমূহ অন্তৰ্ভুক্ত কৰা হৈছিল। প্ৰত্যেকটো পিটকতে কেইবাখনো ব্যক্তিগত গ্ৰন্থ আছিল। পিছলৈ বৌদ্ধ পণ্ডিতসকলৰ দ্বাৰা এই সকলোবোৰ ধাৰাবাহিক ৰূপত লিখা হৈছিল।

বৌদ্ধধৰ্মী ৰূপে শ্ৰীলংকালৈ ভ্ৰমণ কৰিছিল অনা লিখনীয়ে যেনে— 'দীপবংশ' (ঘৌপৰ বুৰঞ্জী) আৰু 'মাধৱবংশ' (মহান বুৰঞ্জী), যুদ্ধৰ আঞ্চলিক ইতিহাসক জড়িত কৰিছিল। ইয়াৰে বহুতো কাম বুদ্ধৰ জীৱনীত সন্নিবিষ্ট কৰা হৈছে। কিছুমান পৌৰাণিক লিখনি পালিত আৰু শেহতীয়াকৈ সংস্কৃতত ৰচনা কৰা হৈছিল।

যেতিয়া বৌদ্ধ ধৰ্ম পূৰ্ব এছিয়াত বিস্তাৰিত হয়, ফাঁ-হিয়ান আৰু হেন চিয়ানৰ দৰে তীৰ্থযাত্ৰীসকলে চীনল পৰা ভাৰতলৈ আহিছিল বুদ্ধৰ লিখিত গ্ৰন্থৰ সন্ধানত। সেৱা তেওঁলোকে নিজৰ দেশলৈ কঢ়িয়াই লৈ যায়, য'ত তেওঁলোকৰ পণ্ডিতৰ দ্বাৰা পুথিসমূহ অনুবাদ কৰায়। ভাৰতীয় বৌদ্ধ শিক্ষকসমূহেও বহু দূৰলৈ ভ্ৰমণ কৰিছিল, গ্ৰন্থসমূহ কঢ়িয়াই লৈ ফুৰিছিল বুদ্ধৰ শিক্ষাক প্ৰসাৰিত কৰাৰ বাবে।

এছিয়াৰ বিভিন্ন বৌদ্ধ ধৰ্মৰ মঠ-মন্দিৰসমূহত বুদ্ধৰ লিখনসমূহৰ পাণ্ডুলিপি বহু শতিকালৈ সংৰক্ষণ কৰা হৈছিল। আধুনিক অনুবাদসমূহ পালি, সংস্কৃত, চীনা আৰু ত্ৰিকাতীয় লিখনীৰ পৰা কৰা হৈছিল।

ক'ত বৌদ্ধ দাৰ্শনিক গ্ৰন্থসমূহৰ বিষয়ে আলোচনা কৰা হৈছিল ?

- (1) সুত্ত পিটক
- (2) দিনয় পিটক
- (3) অভিবশ্মা পিটক
- (4) মহাবংশ

Options :

212807119345 1

212807119346 2

212807119347 3

212807119348 4

Question Number : 241 Question Id : 21280719537 Question Type : MCQ Option Shuffling : No Is Question Mandatory : No Calculator : None

Response Time : N.A Think Time : N.A Minimum Instruction Time : 0

Correct Marks : 5 Wrong Marks : 1

Question Key Details :

Key	Value
Comprehension	Comp1

### অনুচ্ছেদটি পড়ো ও প্রশ্নের উত্তর দাও :

বুদ্ধ (ও অন্য গুরুরা) মুখে মুখে পড়াতেন— আলোচনা ও বিতর্কের মাধ্যমে। পুরুষ ও নারীর (সম্ভবতঃ শিশুরাও) এই সভাগুলিতে উপস্থিত থাকত এবং বা তারা জনতা সে বিষয়ে আলোচনা করতো। বুদ্ধের কোন ভাষণ তাঁর জীবদ্দশাকালীন লিখিত হয়নি। তাঁর মৃত্যুর পর (পঞ্চম থেকে চতুর্থ খ্রীষ্ট পূর্বাব্দে) “বদ্বক্ক” বা প্রবীণ সন্ন্যাসী, যারা তাঁর শিষ্য ছিলেন ভেঙ্গাডি (পালিতে বৈশালী-বর্তমান বিহারে) তে তাঁরা পরিষদ গঠন করে। বুদ্ধের বাণীগুলি সংকলিত করেন। এই সংকলনগুলি ত্রিপিটক নামে পরিচিত— আক্ষরিকভাবে তিনটি পৃথক পাত্র যেখানে নানান ধরণের বিষয় রাখা হত। প্রথমে তারা মৌখিক আলোচনা করতো ও তারপর লিখতো এবং দৈর্ঘ্য ও বিষয়বস্তু অনুযায়ী সেগুলি শ্রেণিবিন্যস্ত করা হতো।

দিনয় পিটিকে সংঘ বা মঠে যোগদানকারী শিষ্য-শিষ্যানুল্লীর জন্য নিয়মকানুন সংকলিত ছিল। বুদ্ধের বাণীসমূহ সূক্ত পিটিকে ও অভিধর্ম পিটিকে দার্শনিক বিবরণসমূহ আলোচিত হয়। প্রত্যেক পিটিক অল্প বেশ করেকটি বিষয় নিয়ে গঠিত হয়। পরবর্তী সময়ে পিটিকের বিষয়বস্তুগুলির উপর ধারাবাহিক কাব্য বৌদ্ধ পণ্ডিতদের দ্বারা লিখিত হয়েছিল।

বুদ্ধ নতুন নতুন অঞ্চলে পরিভ্রমণ করেছিলেন, যেমন শ্রীলঙ্কা। সেই মতো বৌদ্ধধর্মের আঞ্চলিক ইতিহাস দীপবংশ (আক্ষরিক অর্থে বীপভূমির ইতিবৃত্ত) ও মহাবংশ (মহাইতিবৃত্ত) লিখিত হয়। এইসকল রচনাগুলির অনেকগুলিতে বুদ্ধের জীবনী বিধৃত আছে। আদি বৌদ্ধ শাস্ত্রের কিছু পালি ভাষায় আর পরবর্তীতে বৌদ্ধশাস্ত্রগুলি সংস্কৃত ভাষায় লিখিত হয়।

বৌদ্ধ ধর্ম পূর্ব এশিয়ায় বিস্তার লাভ করলে পর্যটকরা যেমন— ফা-হিয়েন ও জুয়াং জ্যাং চীন থেকে ভারতে এসেছিলেন বৌদ্ধ শাস্ত্রগুলি অনুসন্ধানের জন্য। বহু বৌদ্ধ ধর্ম বিষয়ক তথ্য ও শাস্ত্র-সংগ্রহ করে তারা স্বদেশে নিয়ে যায় যেগুলি বিশেষজ্ঞদের দ্বারা অনুলিখিত হয়েছিল। ভারতীয় বৌদ্ধ পণ্ডিতরা বহু দূরবর্তী জায়গায় ভ্রমণ করেছিলেন। সঙ্গে তারা বৌদ্ধ ধর্ম সংক্রান্ত গ্রন্থ বহন করতেন, বৌদ্ধ ধর্মের বাণী ছড়িয়ে দেওয়ার জন্য।

বৌদ্ধ সাহিত্যগুলি বহু শতাব্দী যাবৎ পালুলিপি আকারে এশিয়ার বিভিন্ন অঞ্চলের মঠগুলিতে রক্ষিত হয়েছিল। আধুনিক অনুবাদগুলি পালি, সংস্কৃত, চীনা ও তিব্বতী বৌদ্ধ শাস্ত্র-সাহিত্যগুলি থেকে প্রস্তুত করা হয়েছে।

বৌদ্ধ ধর্মের কোন শাস্ত্রে দার্শনিক ব্যাখ্যাসমূহ আলোচিত হয়েছে ?

- (1) সূক্ত পিটক
- (2) দিনয় পিটক
- (3) অভিধর্ম পিটক
- (4) মহাবংশ

Options :

212807119345 1

212807119346 2

212807119347 3

212807119348 4

Question Number : 241 Question Id : 21280719837 Question Type : MCQ Option Shuffling : No Is Question Mandatory : No Calculator : None  
Response Time : N/A Think Time : N/A Minimum Instruction Time : 0

Correct Marks : 5 Wrong Marks : 1

Question Key Details :

Key	Value
Comprehension	Compl

નીચેનો ફકરોવાંચી પ્રશ્નોના ઉત્તર આપો :

બુદ્ધ (અને અન્ય શિક્ષકો) ચર્ચાઓ અને વિચારણાઓ દ્વારા મૌખિક રીતે ઉપદેશ આપતા હતા. સ્ત્રીઓ અને પુરૂષો (કદાચ બાળકો પણ) આ પ્રવચનોમાં હાજરી આપતા હતા અને તેઓએ જે સાંભળ્યું હતું તેની ચર્ચા કરતા હતા. બુદ્ધના જીવનકાળ દરમિયાન તેમણે એક પણ ભાષણ લખવામાં આવ્યું ન હતું. તેમના મૃત્યુ (સૌથી-પાંચમી સદી BCE) પછી તેમના ઉપદેશોનું વેશાલીમાં (પાલીમાં વેશાલી જે હાલમાં બિહારમાં આવેલું છે) "વડીલો" કે વરીષ્ઠ સાદુઓની પરિષદમાં સંકલન કરવામાં આવ્યું હતું. આ સંકલનો ત્રીપીટક તરીકે ળાણીતા છે જેનો શાબ્દિક અર્થ-વિવિધ પ્રકારના ગ્રંથો રાખવા માટેની ત્રણ ટોપલીઓ થાય છે; તેઓને પ્રથમ મૌખિક રીતે પ્રસારિત કરવામાં આવ્યા હતાં અને બાદમાં લખીને તેની લંબાઈ અને વિષયવસ્તુ પ્રમાણે વર્ગીકૃત કરવામાં આવ્યા હતાં.

વિનય પીટકમાં સંઘ અથવા સાદુઓના ક્રમમાં જોડાવ માટેના નિતીનિયમોનો સમાવેશ થતો હતો. સુત્તપીટક અને અભિધમ્મ પિટક તાત્ત્વીક બાબતો સાથે સંબંધિત છે. દરેક પીટકમાં સાંખ્યાવંધ સ્વતંત્ર ગ્રંથોનો સમાવેશ થતો હતો. પાછળથી બુદ્ધીસ્ત વિદ્યાનો દ્વારા આ લખાણો ઉપરની ટીકાઓ લખવામાં આવી હતી.

જ્યારે બુદ્ધ ધર્મ ગ્રીસમાં લેવા નવા પ્રદેશોમાં પણેએ છે, ત્યારે બીજા ગ્રંથો જેવાકે દીપવંશ (શાબ્દિક અર્થ-ટાપુનો) અને મહાવંશ (મહાન ) લખવામાં આવ્યા હતાં, જેમાં બૌદ્ધ ધર્મનો પ્રાદેશિક ઇતિહાસ સમાવાયેલો છે, તેમાંથી કેટલાક જૂના લખાણો પાલીમાં લખાયા છે, જ્યારે પછીની રચનાઓ સંસ્કૃતમાં લખવામાં આવી છે.

જ્યારે બૌદ્ધ ધર્મ પૂર્વ એશિયામાં ફેલાયો, ડા હિયાન અને હ્યુ-એન-ત્સાંગ જેવા યાત્રાળુઓ આ લખાણોની શોધમાં છેક ચીનથી ભારત સુધી આવ્યા, અને આ લખાણોને તેઓ પોતાના દેશમાં પાછા લઈ ગયા. જ્યાં વિદ્વાનો દ્વારા તેનું ભાષાંતર કરવામાં આવ્યું. ભારતીય બુદ્ધીસ્ત શિક્ષકો પણ બુદ્ધના ઉપદેશોના પ્રસાર માટે દૂરના સ્થળોએ પ્રવાસ કરતો હતાં, આ લખાણ એશિયાના વિવિધ ભાગોમાં આવેલા મઠોમાં સદીઓ સુધી હસ્તપ્રતોમાં સમવાયેલું હતું.

આધુનિક અનુવાદો પાલી, સંસ્કૃત, ચાઈનીઝ અને ત્રીબેટીયન લખાણોમાંથી તૈયાર કરવામાં આવ્યા છે.

નીચેનામાંથી કયું લખાણ તાત્ત્વીક બાબતોની ચર્ચા કરે છે ?

- (1) સુત પીટક
- (2) વીનય પીટક
- (3) અભિધમ્મ પીટક
- (4) મહાવંશ

Options :

212807119345 1

212807119346 2

212807119347 3

212807119348 4

Question Number : 242 Question Id : 21280719531 Question Type : MCQ Option Shuffling : No Is Question Mandatory : No Calculator : None

Response Time : N.A Think Time : N.A Minimum Instruction Time : 0

Correct Marks : 5 Wrong Marks : 1

Question Key Details :

Key	Value
Comprehension	Compl

ವಾಕ್ಯ ಪುಂಜವನ್ನು ಓದಿ ಮತ್ತು ಪ್ರಶ್ನೆಗಳಿಗೆ ಉತ್ತರಿಸಿ :

ಬುದ್ಧ (ಮತ್ತು ಇತರ ಶಿಕ್ಷಕರು) ಸಮಾಲೋಚನೆಗಳು ಮತ್ತು ಚರ್ಚೆಗಳ ಮೂಲಕ ಮೌಖಿಕವಾಗಿ ಕಲಿಸಿದರು. ಪುರುಷರು ಮತ್ತು ಮಹಿಳೆಯರು (ಮಕ್ಕಳು ಸಹ) ಈ ಪ್ರಪಂಚಗಳಿಗೆ ಹಾಬರಾಂ ಅವರು ಏನು ಕೇಳಿಕೊಂಡರೋ ಅದನ್ನು ಚರ್ಚಿಸಿದರು. ಬುದ್ಧನ ಯಾವುದೇ ಭೋಧನೆಗಳನ್ನು ಅವನ ಜೀವಿತ ಅವಧಿಯಲ್ಲಿ ಬರೆಯಲಿಲ್ಲ ಅವನ ಮೃತ್ಯುವಿನ ನಂತರದಲ್ಲಿ (ಸುಮಾರು BCE ಐದನೇ-ಆರನೇ ಶತಮಾನ) ಅವನ ಭೋಧನೆಗಳನ್ನು ಅವನ ಶಿಷ್ಯರು 'ಹಿರಿಯರ' ಸಭೆ ಅಥವಾ ಪಿರಿಯ ದಿಟ್ಟಿಗಳ ಸಮ್ಮುಖದಲ್ಲಿ ವೈಶಾಲಿಯಲ್ಲಿ (ಇವತ್ತಿನ ಬಹಾರದಲ್ಲಿ ಪಾಲಿ) ಸಂಗ್ರಹಿಸಲಾಯಿತು. ಈ ಸಂಗ್ರಹಗಳನ್ನು 'ತ್ರಿಪೀಟಕಗಳು' ಎಂದು ಕರೆಯುತ್ತಾರೆ. ವಾಸ್ತವವಾಗಿ ವಿವಿಧ ರೀತಿಯ ಬರಹಗಳನ್ನು ಹಿಡಿದಿರುವ ಮೂರು ಬುಟ್ಟಿಗಳು. ಅವುಗಳನ್ನು ಮೊದಲು ಮೌಖಿಕವಾಗಿ ಪ್ರಸಾರ ಮಾಡಲಾಯಿತು ಮತ್ತು ನಂತರ ಬರೆದ ಮತ್ತು ಅವಧಿ ಮತ್ತು ವಿಷಯ ವಸ್ತುಗಳ ಪ್ರಕಾರ ವಿಂಗಡಿಸಲಾಯಿತು.

ವಿನಯ ಪೀಟಕವು ಸಂಘ ಅಥವಾ ಮಠಗಳಿಗೆ ಸೇರುವವರಿಗೆ ನಿಯಮಗಳು ಮತ್ತು ನಿರ್ಬಂಧಗಳನ್ನು ಒಳಗೊಂಡಿದೆ ; ಬುದ್ಧನ ಭೋಧನೆಗಳನ್ನು ಸುಟ್ಟ ಪೀಟಕದಲ್ಲಿ ಸೇರಿಸಲಾಗಿದೆ ಮತ್ತು ಅಭಿಧಮ್ನ ಪೀಟಕವು ಆಧ್ಯಾತ್ಮಿಕ ವಿಷಯಗಳ ಕುರಿತಾಗಿದೆ. ಪತಿಯೊಂದು ಪೀಟಕವು ಬಹುಸಂಖ್ಯೆಯ ವೈಯಕ್ತಿಕ ಬರಹಗಳನ್ನೊಳಗೊಂಡಿತ್ತು. ನಂತರ ಬೌದ್ಧ ವಿಶ್ವಾಸರಿಂದ ಈ ಬರಹಗಳ ಮೇಲೆ ಛಾಪುಗಳನ್ನು ಬರೆಯಲಾಯಿತು.

ಬೌದ್ಧ ಧರ್ಮವು ಹೊಸ ಪ್ರವೇಶಗಳಾದ ಶ್ರೀಲಂಕಾಕ್ಕೆ ಹರಡಿತು. ಇತರ ಬರಹಗಳಾದ ದೀಪವಂಶ (ವಾಸ್ತವವಾಗಿ ದ್ವಿಪಗಳ ಚರಿತ್ರೆ) ಮತ್ತು ಮಹಾವಂಶ (ಅದ್ಭುತ ಚರಿತ್ರೆ) ಬುದ್ಧರ ಪ್ರದೇಶಕ ಇತಿಹಾಸಗಳನ್ನೊಳಗೊಂಡು ಬರೆಯಲ್ಪಟ್ಟಿತು. ಇವುಗಳ ಹಲವು ಬರಹಗಳು ಬುದ್ಧನ ಆತ್ಮ ಚರಿತ್ರೆಯನ್ನೊಳಗೊಂಡಿದೆ. ಕೆಲವು ಹಳೆಯ ಬರಹಗಳು ಪಾಲಿಯಲ್ಲಿದೆ. ಆದರೆ ನಂತರದ ಸಂಯೋಜನೆಗಳು ಸಂಸ್ಕೃತದಲ್ಲಿದೆ.)

ಯಾವಾಗ ಬೌದ್ಧ ಧರ್ಮವು ಪೂರ್ವ ಏಷ್ಯಾಕ್ಕೆ ಪ್ರಸಾರವಾಯಿತೋ, ಆಗ ಯಾತ್ರಾರ್ಥಿಗಳಾದ ಫಾಕ್ಸಿಯಾನ್ ಮತ್ತು ಹ್ಯೂಯೆನ್ ತ್ಸಾಂಗ್ ಚೀನಾದಿಂದ ಭಾರತಕ್ಕೆ ಬರಹಗಳ ಶೋಧನೆಗೆ ಪ್ರವಾಸ ಮಾಡಿದರು. ಇವುಗಳನ್ನು ತಮ್ಮ ದೇಶಕ್ಕೆ ತೆಗೆದು ಕೊಂಡು ಹೋಗಿ, ಅವನ್ನು ಅಲ್ಲಿ ವಿಶ್ವಾಸಿಗಳಿಂದ ಭಾಷಾಂತರ ಗೊಳಿಸಿದರು. ಭಾರತೀಯ ಬೌದ್ಧ ಶಿಕ್ಷಕರು ಸಹ ಬುದ್ಧನ ಭೋಧನೆಗಳನ್ನು ಪ್ರಸಾರ ಮಾಡಲು ಏರವಣಿಗೆಗಳನ್ನು ಹೊತ್ತು ದೂರದ ಪ್ರದೇಶಗಳಿಗೆ ಪ್ರಯಾಣ ಬೆಳೆಸಿದರು.

ಬೌದ್ಧರ ಬರಹಗಳನ್ನು ದಿಟ್ಟಾದ ವಿವಿಧ ಭಾಗಗಳಲ್ಲಿ ಹಸ್ತಕೃತಿಯಲ್ಲಿ ಹಲವು ಶತಮಾನದ ಪರಿಗೆ ಸಂರಕ್ಷಿಸಲಾಯಿತು. ಆಧುನಿಕ ಭಾಷಾಂತರವನ್ನು ಪಾಲಿ, ಸಂಸ್ಕೃತ, ಚೀನಿ ಮತ್ತು ಟಿಬೆಟೀಸ್ ಬರಹಗಳಿಂದ ತಯಾರಿಸಲಾಗಿದೆ.

ಯಾವ ಬೌದ್ಧರ ಬರಹದಲ್ಲಿ ಆಧ್ಯಾತ್ಮಿಕ ವಿಷಯಗಳನ್ನು ಚರ್ಚಿಸಲಾಗಿದೆ ?

- (1) ಸುಟ್ಟ ಪೀಟಕ
- (2) ವಿನಯ ಪೀಟಕ
- (3) ಅಭಿಧಮ್ನ ಪೀಟಕ
- (4) ಮಹಾವಂಶ

Options :

- 212807119345 1  
212807119346 2  
212807119347 3  
212807119348 4

Question Number : 241 Question Id : 21280719537 Question Type : MCQ Option Shuffling : No Is Question Mandatory : No Calculator : None  
Response Time : N.A Think Time : N.A Minimum Instruction Time : 0

Correct Marks : 5 Wrong Marks : 1

Question Key Details :

Key	Value
Comprehension	Compl

## उत्तरा वाचा आणि प्रश्न चे उत्तर लिहा :

बुद्ध ( आणि इतर शिक्षक) मौखिकरित्या चर्चा व वादविवादांद्वारे उपदेश करत. स्त्रिया व पुरुष ( कदाचित लहान मुलेही ) या चर्चेस उपस्थित रहात व आपण काय ऐकले यावर चर्चा करत. बुद्धांच्या जीवनकालात त्यांनी केलेले एकही उपदेश पर भाषण लिहून ठेवले गेले नाही. त्यांच्या मृत्यूनंतर ( इ.स. पू पाचवे-चौथे शतक ) त्यांच्या शिष्यांनी त्यांच्या उपदेशांचे संग्रह करून ठेवले. हे काम “ श्रेष्ठींची समिती ” किंवा ज्येष्ठ भिक्षुंनी वेसाली ( वैशाली चे पाली भाषेतील रूप ) ( वैशाली आजच्या विहारमधे स्थित आहे ) येथे केले. या संग्रहाना त्रिपिटक म्हणजे शब्दशः विविध ग्रंथ असणारे तीन पेटारे असे म्हटले जाऊ लागले. ते प्रथम मौखिकरित्या व नंतर लिखितरित्या संक्रमित झाले. त्यांचे लांबीनुसार व विषय वस्तुनुसार वर्गीकरण करण्यात आले.

विनय पिटकामध्ये, संघात प्रवेश करून भिक्षु वनाच्यासाठीचे नियम लिहिले आहेत. बुद्धांचा उपदेश सूत्रपिटकात तर तत्वज्ञानविषयक बाबींचा अभिधम्म पिटकात समावेश आहे. प्रत्येक पिटकात विविध स्वतंत्र ग्रंथ आहेत. नंतर त्यावर बौद्ध विद्वानांनी टीका लिहिली.

जेव्हा बौद्ध धर्माचा बाहेर उदाहरणार्थ श्रीलंकेत प्रसार झाला, तेव्हा दीपवंश ( वेदाची माहिती ) व महावंश ( थोर ग्रंथ ) लिहिले गेले, ज्यात बौद्ध धर्माच्या प्रांतिक इतिहासाचा समावेश आहे. यापैकी अनेक ग्रंथात बुद्धांच्या चरित्राचा समावेश आहे. काही अति प्राचीन ग्रंथ पाली भाषेत आहेत तर त्यानंतरच्या काळातील रचना संस्कृतमध्ये आहेत.

पूर्व आशियामध्ये बौद्ध धर्माचा प्रसार झाल्यानंतर फाहियान व जिआनझांग सारखे प्रवासी चिनमधून भारतात ग्रंथांच्या शोधात आले. हे ग्रंथ ते मायदेशी परत घेऊन गेले, जिथे विद्वानांनी त्यांचे भाषांतर केले. भारतीय बौद्ध उपदेशकांनी देखिल सुदूरच्या प्रदेशात बुद्धांच्या उपदेशाचा प्रसार करण्यासाठी ग्रंथ घेऊन प्रवास केला.

आशिया खंडाच्या विविध भागात बौद्ध संप्रदायांमध्ये बौद्ध ग्रंथांच्या हस्तलिखितांचे जतन केले गेले. पाली, संस्कृत, चिनी व तिबेटी ग्रंथांवरून आधुनिक भाषांतरे तयार केलेली आहेत.

कोणत्या बौद्ध ग्रंथात दर्शनशास्त्रीय बाबींची ( तत्वज्ञानाची ) चर्चा केली आहे ?

- (1) सूत्र पिटक
- (2) विनय पिटक
- (3) अभिधम्म पिटक
- (4) महावंश

Options :

212807119343-1

212807119344-2

212807119347-3

212807119348-4

Question Number : 242 Question Id : 21280719837 Question Type : MCQ Option Shuffling : No Is Question Mandatory : No Calculator : None

Response Time : N/A Think Time : N/A Minimum Instruction Time : 0

Correct Marks : 5 Wrong Marks : 1

Question Key Details :

Key	Value
Comprehension	Compl

താഴെ തന്നിരിക്കുന്ന ഗദ്യഭാഗം വായിച്ച് ഉത്തരം എഴുതുക.

ബുദ്ധനും അതുപോലെ മറ്റ് അധ്യാപകരുചർച്ചകളിലൂടെയും സംവാദങ്ങളിലൂടെയും പഠിപ്പിച്ചു. രൂപപ്പെട്ട കൂട്ടികൾ ഉൾപ്പെടെ ആണ്ണം പെണ്ണും കേട്ടതൊക്കെ ഉൾക്കൊണ്ടു. ബുദ്ധന്റെ ജീവിത കാലത്ത് അദ്ദേഹത്തിന്റെ ഒരു പ്രഭാഷണവും രേഖപ്പെടുത്തപ്പെട്ടിരുന്നില്ല. അദ്ദേഹത്തിന്റെ മരണശേഷം (ബി. സി. 54) അദ്ദേഹത്തെ പിന്തുടരുന്ന ഒരു കൂട്ടം മുതിർന്നവർ ഇതിനെ സ്മരണയ്ക്കി എഴുതി സൂക്ഷിച്ചത് പാലിയീലാണ്. (പാലിയും വൈശാലിയും ഇന്നത്തെ ബിഹാറിലാണ് )

ഈ ബുക്കുകളെ അറിയപ്പെട്ടത് ത്രിപിറ്റക എന്നാണ്. സാഹിത്യപരമായി മൂന്ന് ബാസ്കറ്റുകളിലാണ് ബുക്കുകൾ സൂക്ഷിച്ചത്. ആദ്യം വാമൊഴിയായി പ്രചരിച്ച ഈ ബുക്കുകൾ പിന്നീട് എഴുതപ്പെടുകയും വിഷയത്തിന്റെയും വലുപ്പത്തിന്റെയും അടിസ്ഥാനത്തിൽ വേർതിരിക്കപ്പെടുകയും ചെയ്തു.

വിനയ പീഠക പ്രധാനമായി പ്രതിപാദിച്ചത് സന്യാസ സംഘത്തിൽ ചേരുന്നവർക്കായുള്ള നിർദ്ദേശങ്ങളും നിയമങ്ങളും ആയിരുന്നു. ബുദ്ധന്റെ മറ്റ് രണ്ട് കൃതികളായ വിനയപീഠികയും അഭിതമപീഠികയും തത്വശാസ്ത്രപരമായിരുന്നു. ഓരോ പീഠികയും കുറച്ചു ബുക്കുകളുടെ കൂട്ടമായിരുന്നു. പീഠികകളെന്ന് ബുദ്ധ പണ്ഡിതന്മാർ ഇതിന് ആഖ്യാനങ്ങൾ എഴുതി. ശ്രീലങ്ക പോലുള്ള പുതിയ സ്ഥലങ്ങളിൽ സന്ദർശിച്ച ബുദ്ധന കാലഗണ തയ്യാറാക്കാൻ സഹായിക്കുന്നു. ദീപവംശ (ദീപിന്റെ കാലഗണന) മഹാവംശ (മഹത്തായ കാലഗണന) എന്നിവ ബുദ്ധചരിത്രത്തോടൊപ്പം എഴുതി. ചിലതൊക്കെ പാലിയീലാണോ എഴുതപ്പെട്ടതെങ്കിലും പിന്നീട് സംസ്കൃതത്തിലേക്ക് തർജ്ജമ നടത്തി.

ബുദ്ധീസം കീഴക്കൻ ഏഷ്യൻ രാജ്യങ്ങളിലേക്ക് വ്യാപിച്ചപ്പോൾ ചൈനയിൽ നിന്ന് ഫാഹിയൻ, ഹുയാൻ സാങ് എന്നിവർ ഗ്രന്ഥങ്ങൾ അന്വേഷിച്ച് ഇന്ത്യയിലെത്തി. ഇത് അവർ അവരുടെ രാജ്യത്തേക്ക് കൊണ്ടുപോയി. അവർ പണ്ഡിതന്മാരായി തർജ്ജമ ചെയ്തു. ഇന്ത്യയിൽ നിന്നുള്ള ബുദ്ധ സന്യാസിമാരും ലോകത്തിന്റെ പലവശത്തേക്ക് യാത്രചെയ്ത് ബുദ്ധന്റെ ആശയങ്ങൾ ജനങ്ങളിലേക്ക് എത്തിച്ചു.

ബുദ്ധമത ഗ്രന്ഥങ്ങളുടെ കൈയെഴുത്തു പ്രതികൾ ഏഷ്യയിലെ വിവിധ ഭാഗങ്ങളിൽ സൂക്ഷിച്ചിരിക്കുന്നു. പുതിയ വിവർത്തനങ്ങൾ പാലിയീലും സംസ്കൃതത്തിലും ടിബറ്റൻ ഭാഷയിലും ചൈനീസിലും ഉണ്ടായി.

ഏത് ബുദ്ധ ഗ്രന്ഥത്തിലാണ് തത്വശാസ്ത്ര അനുബന്ധ വിഷയങ്ങൾ പ്രതിപാദിച്ചിരിക്കുന്നത് ?

- (1) സൂത പീഠിക
- (2) വിനയ പീഠിക
- (3) അഭിതമ പീഠിക
- (4) മഹാവംശ

Options :

- 212807119343 1
- 212807119344 2
- 212807119347 3
- 212807119348 4

Question Number : 141 Question Id : 21280719637 Question Type : MCQ Option Shuffling : No Is Question Mandatory : No Calculator : None Response Time : N/A Think Time : N/A Minimum Instruction Time : 0 Correct Marks : 5 Wrong Marks : 1

Question Key Details :

Key	Value
-----	-------

ଅନୁଛେଦଟିରୁ ପଢ଼ନ୍ତୁ ଏବଂ ନିମ୍ନଲିଖିତ ପ୍ରଶ୍ନର ଉତ୍ତର ଦିଅନ୍ତୁ ।

ଦୁଇ (ଏବଂ ଅଂ ଭାର୍ତ୍ତମାନେ) ମୌଖିକ ରୂପରେ ଶିକ୍ଷା ଦେଉଥିଲେ - ଆନୁଷ୍ଠାନିକ ଆଲୋଚନା ମାଧ୍ୟମରେ । ସ୍ତ୍ରୀ ଏବଂ ପୁରୁଷ (ଏମିତିକି ପିଲାମାନେ ମଧ୍ୟ) ତାଙ୍କର ବରୁଣା ଯୋଗଦେଉଥିଲେ ଏବଂ ଯାହା ଶୁଣୁଥିଲେ ତାହା ଆଲୋଚନା କରୁଥିଲେ । ଦୁଇଜଣ ଜୀବନ ସମୟରେ ତାଙ୍କର କୌଣସି କଥା ଲିପିବଦ୍ଧ ହୋଇନଥିଲା । ତାଙ୍କର ମୃତ୍ୟୁ ପରେ, ତାଙ୍କର ଶିଷ୍ୟମାନଙ୍କର ଦ୍ଵାରା ତାଙ୍କର ଶିକ୍ଷାକୁ ଲିପିବଦ୍ଧ କରାଯାଇଥିଲା, ଯାହାକି ବସନ୍ତେଷ ନ୍ୟାସି ଏବଂ ବସନ୍ତେଷ (ମଲୟ) ବିଜ୍ଞାନୀଙ୍କର ଏକ ସଭା ଯାହାକି ବୈଶାକୀ (ପାଲି ବର୍ଣ୍ଣମାନର ବିଦ୍ୟାର) । ଏହି ସଭାକି ବହିଗୁଡ଼ିକୁ ଲିପିବଦ୍ଧ କରାଯାଇଥିଲା । - ସ୍ଵତନ୍ତ୍ର ଡିକୋଡି ଟୁଡି, ଚିନି ପ୍ରକାଶକ ଅନୁଛେଦ ଉତ୍ତରା ପାଲି ।

ଯେଉଁମାନେ ସଂଘ ଯୋଗଦେଉଥିଲେ ସେମାନଙ୍କ ପାଇଁ ବିନାୟ ପିଟକରେ ନିୟମାବଳୀ ଲିପିବଦ୍ଧ ଥିଲା; ଦୁଇଜଣ ଶିକ୍ଷା ସ୍ଵତ୍ର ପିଟକରେ ଲିପିବଦ୍ଧ ହୋଇଥିଲା ଏବଂ ଅଭିଧାନ ପିଟକରେ ପିଲୋସୋଫିକାଲ ବିଷୟବସ୍ତୁ ଥିଲା । ପୁଟି ପିଟକରେ ଏକାଧିକ ଅନୁଛେଦ ରହିଥିଲା । ପରବର୍ତ୍ତୀ ସମୟରେ ବୌଦ୍ଧ ଗୁରୁମାନଙ୍କର ଭାଗଣ ଲିପିବଦ୍ଧ ଥିଲା ।

ଶ୍ରୀଲଙ୍କା ରୁଚି ନୂଆ ଅକ୍ଷରକୁ ବୌଦ୍ଧ ଧର୍ମ ବ୍ୟାପିଲା ପରେ ବିଭିନ୍ନ ଅନୁଛେଦ ଯଥା - ବିନୟନୟ (ବ କ୍ଲୋଡିକାଲ୍ ଅଫ୍ ବ ଆଇଲ୍ୟାଣ୍ଡ) ଲେଖାଯାଇଥିଲା ଯେଉଁଥିରେ କି ବୌଦ୍ଧ ଧର୍ମର ଆଞ୍ଚଳିକ ଉଦ୍ଦିଷ୍ଟ ଲେଖାଯାଇଥିଲା । ପ୍ରାରମ୍ଭିକ ଅନୁଛେଦଗୁଡ଼ିକ ପାଲିଭାଷାରେ, ଏବଂ ପରବର୍ତ୍ତୀ ଅନୁଛେଦଗୁଡ଼ିକ ସଂସ୍କୃତ ଭାଷାରେ ଲିପିବଦ୍ଧ ହୋଇଥିଲା ।

ବୌଦ୍ଧ ଧର୍ମ ପୂର୍ବ ଏସିଆକୁ ପ୍ରସାର ହେବାବେଳେ, ପାହିଆନ ହୁଏନସାଂ ପୁସ୍ତକ ସମ୍ପାଦନରେ ବାବୁ ଲାଭତ ଆସିଲେ । ସେମାନେ ନିଜ ଦେଶକୁ ଗଲାବେଳେ ବିଜ୍ଞାନ ଦ୍ଵାରା ଅନୁବାଦ କେଲେଲେ । ଲାଭତରୀ ବୌଦ୍ଧ ଗୁରୁ ମଧ୍ୟ ଅନେକ ଦୂର ପରିଭ୍ରମଣ କଲେ, ସାଥରେ ପୁସ୍ତକ ଲୋକ ଦୁର୍ଦ୍ଦଳ ଶିକ୍ଷାକୁ ପ୍ରସାର କରିବା ଉଦ୍ଦେଶ୍ୟରେ ।

ଏସିଆର ବିଭିନ୍ନ ଦେଶରେ ବୌଦ୍ଧ ପୁସ୍ତକଗୁଡ଼ିକୁ ପାଣ୍ଡୁଲିପି ଭାବେ ବୌଦ୍ଧପିଠରେ ରଖାଯାଇଛି । ଆଧୁନିକ ଅନୁବାଦ ସବୁ ପାଲି, ଚାଉଳିକ, ସଂସ୍କୃତ ଏବଂ ଚିତ୍ତରିୟ ପାଠ୍ୟ ପୁସ୍ତକରୁ ପ୍ରସ୍ତୁତ ହୋଇଛି ।

ନିମ୍ନଲିଖିତ ଅନୁଛେଦ ମଧ୍ୟରୁ କେଉଁଥିରେ ବୌଦ୍ଧ ଧର୍ମର ଦାର୍ଶନିକ ଚର୍ଚ୍ଚା କେମିତି ଯାଇଥିଲା ?

- (1) ସ୍ଵତ୍ର ପିଟକ
- (2) ବିନୟ ପିଟକ
- (3) ଅଭିଧାନ ପିଟକ
- (4) ମହାରମସା

Options :

112807119345 1

112807119346 2

112807119347 3

112807119348 4

Question Number : 242 Question Id : 21280719837 Question Type : MCQ Option Shuffling : No Is Question Mandatory : No Calculator : None Response Time : N.A Think Time : N.A Minimum Instruction Time : 0

Correct Marks : 5 Wrong Marks : 1

Question Key Details :

Key	Value
Comprehension	Comp1



ਪੈਰੋ ਨੂੰ ਪੜ੍ਹੋ ਅਤੇ ਨਿਮਨਲਿਖਤ ਪ੍ਰਸ਼ਨ ਦੇ ਉਤਰ ਦਿਓ।

ਬੁੱਧ (ਅਤੇ ਹੋਰ ਗੁਰੂਆਂ) ਨੇ ਮੌਖਿਕ ਰੂਪ ਵਿਚ ਚਰਚਾ ਅਤੇ ਬਹਿਸ ਰਾਹੀਂ ਸਿੱਖਿਆਵਾਂ ਦਿੱਤੀਆਂ। ਆਦਮੀ, ਔਰਤਾਂ (ਸਾਇਦ ਬੱਚੇ ਵੀ) ਇਨ੍ਹਾਂ ਪ੍ਰਵਚਨਾਂ ਨੂੰ ਸੁਣਦੇ ਅਤੇ ਚਰਚਾ ਕਰਦੇ। ਬੁੱਧ ਦੇ ਜੀਵਨ-ਕਾਲ ਦੌਰਾਨ ਬੁੱਧ ਦਾ ਕੋਈ ਵੀ ਪ੍ਰਵਚਨ ਲਿਖਤ ਵਿਚ ਨਹੀਂ ਆਇਆ। ਬੁੱਧ ਦੀ ਮੌਤ (ਪੰਜਵੀਂ-ਚੌਥੀ ਸਦੀ ਈ.ਪੂ.) ਤੋਂ ਬਾਅਦ ਉਸਦੇ ਸਭ ਤੋਂ ਵੱਡੇ ਚੇਲਿਆਂ ਨੇ ਵੈਸ਼ਾਲੀ (ਵਰਤਮਾਨ ਸਮੋਂ ਦੇ ਬਿਹਾਰ ਵਿਚ ਵੈਸ਼ਾਲੀ ਲਈ ਪਾਲੇ) ਵਿਚ ਇਨ੍ਹਾਂ ਮੌਖਿਕ ਪ੍ਰਵਚਨਾਂ ਨੂੰ ਸੰਕਲਨ ਕੀਤਾ। ਸਾਹਿਤਕ ਤੌਰ 'ਤੇ ਇਨ੍ਹਾਂ ਸੰਕਲਨ ਨੂੰ ਤਿਪਿਤਕਾ ਗ੍ਰੰਥ ਕਿਹਾ ਜਾਂਦਾ ਹੈ, ਜਿਸਦਾ ਅਰਥ ਹੈ ਟੋਕਰੀ ਜਿਸ ਵਿਚ ਤਿੰਨ ਅੱਲਗ ਕਿਸਮ ਦੀਆਂ ਕਿਤਾਬਾਂ ਰੱਖੀਆਂ ਜਾਂਦੀਆਂ ਹਨ। ਪਹਿਲਾਂ ਉਨ੍ਹਾਂ ਦਾ ਮੌਖਿਕ ਰੂਪਾਂਤਰ ਕੀਤਾ ਗਿਆ, ਬਾਅਦ ਵਿਚ ਲਿਖਤੀ ਹੋਇਆ ਅਤੇ ਇਨ੍ਹਾਂ ਦੀ ਵਰਗ ਵੰਡ ਆਕਾਰ ਅਤੇ ਵਿਸ਼ੇ ਦੇ ਆਧਾਰ ਤੇ ਕੀਤੀ ਗਈ।

ਵਿਨਯਪਟਿਕ ਗ੍ਰੰਥ ਵਿਚ ਸੰਘ ਵਿਚ ਸ਼ਾਮਿਲ ਹੋਣ ਵਾਲੇ ਵਿਅਕਤੀਆਂ ਲਈ ਨਿਯਮ ਦਰਜ ਹਨ। ਮਹਾਰਮਾ ਬੁੱਧ ਦੀਆਂ ਸਿੱਖਿਆਵਾਂ ਸੁੱਤ ਪਟਿਕਾ ਗ੍ਰੰਥ ਵਿਚ ਦਰਜ ਹਨ। ਦਾਰਸ਼ਨਿਕ ਪੱਧਰੀਆਂ ਬਾਰੇ ਅਭਿਧੰਮ ਪਟਿਕਾ ਗ੍ਰੰਥ ਵਿਚ ਜਾਣਕਾਰੀ ਮਿਲਦੀ ਹੈ। ਹਰੇਕ ਪਟਿਕਾ ਦੇ ਆਪਣੇ ਗ੍ਰੰਥ ਵੀ ਹਨ। ਬੋਧੀ ਵਿਚਾਰਕਾਂ ਦੁਆਰਾ ਟਿਪੋਟੀਆਂ ਵੀ ਦਰਜ ਕੀਤੀਆਂ ਗਈਆਂ ਹਨ।

ਬੁੱਧ ਧਰਮ ਸ਼੍ਰੀਲੰਕਾ ਵਿਚ ਪਹੁੰਚਿਆ ਤਾਂ ਦੀਪਵਮਸਾ (ਟਾਪੂ ਦੀ ਲੜੀ) ਅਤੇ ਮਹਾਂਵਮਸਾ ਗ੍ਰੰਥ ਰਚੇ ਗਏ। ਇਨ੍ਹਾਂ ਵਿਚ ਬੁੱਧ ਧਰਮ ਦੀਆਂ ਖੇਤਰੀ ਕਹਾਣੀਆਂ ਦਰਜ ਹਨ। ਇਨ੍ਹਾਂ ਵਿਚ ਬੁੱਧ ਦੇ ਜੀਵਨ ਦਾ ਸ਼ਿਕਰ ਵੀ ਹੈ। ਸਭ ਤੋਂ ਪੁਰਾਣੀਆਂ ਲਿਖਤਾਂ ਪਾਲੀ ਭਾਸ਼ਾ ਵਿਚ ਹਨ ਜਦਕਿ ਸਮਾਂ ਬੀਤਣ ਨਾਲ ਇਨ੍ਹਾਂ ਨੂੰ ਸੰਸਕ੍ਰਿਤ ਭਾਸ਼ਾ ਵਿਚ ਅਨੁਵਾਦਤ ਕਰ ਦਿਤਾ ਗਿਆ।

ਜਦੋਂ ਬੁੱਧ ਧਰਮ ਪੂਰਬ ਵੱਲ ਫੈਲਿਆ ਤਾਂ "ਫਾ ਹੀਯਾਨ" ਅਤੇ "ਜੂ ਯਾਂਗ" ਨੇ ਇਨ੍ਹਾਂ ਲਿਖਤਾਂ ਦੀ ਭਾਲ ਲਈ ਚੀਨ ਤੋਂ ਭਾਰਤ ਦੀ ਯਾਤਰਾ ਕੀਤੀ। ਫਿਰ ਉਹ ਇਨ੍ਹਾਂ ਲਿਖਤਾਂ ਨੂੰ ਆਪਣੇ ਦੇਸ਼ ਲੈ ਗਏ ਅਤੇ ਆਪਣੀ ਭਾਸ਼ਾ ਵਿਚ ਇਨ੍ਹਾਂ ਗ੍ਰੰਥਾਂ ਦਾ ਅਨੁਵਾਦ ਕੀਤਾ। ਭਾਰਤੀ ਬੋਧੀ ਗੁਰੂ ਬੁੱਧ ਦੀਆਂ ਸਿੱਖਿਆਵਾਂ ਨੂੰ ਸੰਸਾਰ ਦੇ ਅਲੱਗ-ਅਲੱਗ ਦੇਸ਼ਾਂ ਵਿਚ ਲੈ ਕੇ ਗਏ।

ਏਸ਼ੀਆ ਦੇ ਅਲੱਗ ਅਲੱਗ ਹਿੱਸਿਆਂ ਵਿਚ ਬੋਧੀ ਮੱਠਾਂ ਵਿਚ ਇਹ ਰਚਨਾਵਾਂ ਸਾਂਭ ਕੇ ਰੱਖੀਆਂ ਗਈਆਂ ਹਨ। ਬੋਧੀ ਰਚਨਾਵਾਂ ਦੇ ਵਰਤਮਾਨ ਰੂਪਾਂਤਰ ਪਾਲੀ, ਸੰਸਕ੍ਰਿਤ, ਚੀਨੀ ਅਤੇ ਤਿੱਬਤੀ ਭਾਸ਼ਾ ਤੋਂ ਕੀਤੇ ਗਏ ਹਨ।

ਕਿਸ ਬੋਧੀ ਗ੍ਰੰਥ ਵਿਚ ਦਾਰਸ਼ਨਿਕ ਮੁੱਦੇ ਚਰਚਾ ਕੀਤੇ ਗਏ?

- (1) ਸੁੱਤ ਪਟਿਕਾ
- (2) ਵਿਨਯ ਪਟਿਕਾ
- (3) ਅਭਿਧੰਮ ਪਟਿਕਾ
- (4) ਮਹਾਂਵਮਸਾ

Options :

212807119345 3

212807119346 3

212807119347 3

212807119348 4

Question Number : 24| Question Id : 21280729837| Question Type : MCQ| Option Shuffling : No| Question Mandatory : No| Calculator : None

Response Time : N.A| Think Time : N.A| Minimum Instruction Time : 0

Correct Marks : 5| Wrong Marks : 1

Question Key Details :

Key	Value
Comprehension	Compl

கீழ்க்காணும் பத்தியைப் படித்து வினாக்களுக்கு விடையளிக்கவும்.

புத்தரும் (ஏனைய இதர போதகர்களும்) விவாதங்கள், கலந்துரையாடல்கள் மூலம் வாய்மொழியாக கூறித்தனர். ஆண்கள், பெண்கள் மற்றும் குழந்தைகளும் இந்த கலந்துரையாடல்களில் கலந்து கொண்டனர். தாங்கள் கேட்டவை குறித்து விவாதித்தனர். புத்தரின் சொற்பொழிவுகள் எதுவும், அவர் வாழ்ந்த காலத்தில் எழுதி வைக்கப்படவில்லை. அவர் காலமானதற்கு பிறகு (கி மு. 3-4 -ஆம் நூற்றாண்டு) அவருடைய சீடர்கள், மூத்தவர்கள் அல்லது பெரியவர்கள் அடங்கிய சபையில், வெசாலி என்ற இடத்தில் (வைசாலி பாலி மொழியில்) இவற்றை ஒன்று திரட்டினர். இவை "திரிபீடகா" என்று (மூன்று கூடைகள்) பல்வேறு நூல்கள் கொண்ட தொகுப்பாகும். முதலில் வாய்மொழியாகக் கூறப்பட்ட இவை, பின்னர், நூல்களாக எழுதப்பட்டு, அவற்றின் நீளம் மற்றும் விஷயத்தின் அடிப்படையில் பிரிக்கப்பட்டன.

சங்கம் அல்லது பௌத்த விகாரத்தில் இணைந்தவர்களுக்காக விதிகள் மற்றும் நெறிமுறைகள் விளைய பீடகாவில் இடம் பெற்றன. புத்தரின் போதனைகள் சுத்த பீடகாவிலும், தத்துவார்த்த விஷயங்கள் அபிதம்ம பீடகாவிலும் இடம் பெற்றன. ஒவ்வொரு பீடகாவிலும் தனித்தனியான பல நூல்கள் இடம் பெற்றிருந்தன. பின்னர் இந்த நூல்கள் குறித்து பௌத்த சான்றோர் வர்ணனைகள்/சுருத்துக்கள் எழுதினர்.

இலங்கை போன்ற இதர புதிய பிராந்தியங்களுக்கு பௌத்தம் பரவிய போது, அந்த பிராந்தியங்களின் பௌத்த வரலாறுகள் அடங்கிய தீபவம்சம் (தீவு-காலவரிசை) மற்றும் மஹாவம்சம் (மகத்தான காலவரிசை) ஆகியன எழுதப்பட்டன. பெரும்பாலான இந்த நூல்களில் புத்தரின் வாழ்க்கை வரலாறு எழுதப்பட்டிருந்தன. சில பழமைபான புத்தகங்கள் யாலி மொழியில் உள்ளன. இவை பின்னர் சமஸ்கிருத மொழியில் எழுதப்பட்டன.

மொத்த கீழ்க்காசியாவிற்கு பௌத்தம் பரவிய போது, பாஹியான் மற்றும் புலான் சுவாங் சீனாவிலிருந்து இந்தியாவிற்கு இந்த நூல்களைத் தேடி வந்தனர். இவற்றை அவர்கள் தங்கள் சொந்த நாட்டிற்கு கொண்டு சென்றனர். அங்கு அவை சான்றோர்களால் மொழி பெயர்க்கப்பட்டன. புத்தரின் போதனைகளை எடுத்துரைக்க, இந்திய பௌத்த போதகர்கள், பௌத்த நூல்களை தொலைதூர இடங்களுக்கு கொண்டு சென்றனர்.

ஆசியாவின் பல்வேறு பௌத்த மடாபையங்களில், பௌத்த நூல்களின் கையெழுத்துப் பிரதிகள் பல நூற்றாண்டுகளுக்கு பாதுகாக்கப்பட்டன. பாவி, சமஸ்கிருதம், சீனம் மற்றும் திபெத்திய நூல்களில் இருந்து நவீன மொழி பெயர்ப்புகள் செய்யப்பட்டன.

எந்த பௌத்த நூலில், தத்துவ விஷயங்கள் விவாதிக்கப்பட்டுள்ளன ?

- (1) சுத்த பீடகா
- (2) விளைய பீடகா
- (3) அபிதம்ம பீடகா
- (4) மஹாவம்சா

Options :

212807119345 3

212807119346 3

212807119347 3

212807119348 4

Question Number : 242 Question Id : 21280729837 Question Type : MCQ Option Shuffling : No Is Question Mandatory : No Calculator : None Response Time : N/A Think Time : N/A Minimum Instruction Time : 0

Correct Marks : 5 Wrong Marks : 1

Question Key Details :

Key	Value
Comprehension	Comp!

కింది గద్యాంశం చదివి ప్రశ్నలకు సమాధానం ఇవ్వండి :

బుద్ధుడు (మరియు ఇతర ఉపాధ్యాయులు) మౌలికముగా తర్కములు మరియు వాదనలతో బోధించారు. పురుషులు మరియు స్త్రీలు (పిల్లలు కూడా) ఈ సంభాషణలు అనుసరించారు మరియు వారు ఏమి విన్నారో చర్చించుకున్నారు. బుద్ధుని ఏ ఒక్క భాషణములు అతని జీవితకాలంలో వ్రాయలేదు. తన మరణానంతరం (c. 54 శతాబ్దం BCE) వైసాలి వద్ద (ప్రస్తుత పీచోర్లో వైసాలి కొరకు పాలి) వృద్ధ సాధువులు లేదా కౌన్సిల్ లోని పెద్దవారి వద్ద శిష్యులు తన బోధనలని సమకూర్చారు. ఈ సమకూర్పులు త్రిపీటికంగా పిలవబడ్డాయి - సాహిత్యంగా విభిన్న రచనలను చేర్చుటకు మూడు ఋట్టలు. అవి మొదటగా వోటితో ప్రచారం చేయబడి తర్వాత వాటి పొడవు మరియు విషయం ప్రకారం రచించబడి వేరు చేయబడ్డాయి.

వినయ పీటకం సంఘంలో చేరిన వారి లేదా సాధు క్రమం యొక్క నియమ నిబంధనలు కలిగి ఉంది. సుత్త పీటికలో బుద్ధుని బోధనలు మరియు అభిదమ్మ పీటకంలో తత్వశాస్త్ర విషయాలు ఉన్నాయి. ప్రతి పీటకం అఖండమైన రచనలు కలిగి ఉంది. తర్వాత బౌద్ధ నిపుణులచే రచనలపై వ్యాఖ్యానాలు చేయబడ్డాయి.

బౌద్ధమతం శ్రీలంకకు విస్తరించినపుడు, దీపవంశం (సాహిత్యంగా ద్వీప చరిత్ర) మహావంశం (గొప్ప చరిత్ర) అనే బౌద్ధ మత చరిత్రను కలిగిన రచనలు చేయబడ్డాయి. వీటిలో చాలా బుద్ధుడి ఆత్మకథలు. వీటిలో కొన్ని పురాతన రచనలు పాలిలో మరియు తర్వాత సంస్కృతంలో రచించబడ్డాయి.

తూర్పు అసియాకి బౌద్ధమతం వ్యాపించినపుడు ఫా టియాన్ మరియు జ్యాన్ జాంగ్ అను ఇద్దరు టెక్టులు చైనా నుండి అందియాకి ఈ రచనలను వెతుకుతూ ప్రయాణించారు. వీటిని వారి దేశానికి తీసుకెళ్లి అక్కడ నిపుణులచే అనువదించారు. బుద్ధుని బోధనలు ప్రచారం చేయడానికి ఈ రచనలని భారత బౌద్ధులు కూడా చాలా దూరం తీసుకెళ్ళారు. బుద్ధుని రచనలు చాలా శతాబ్దాలు అసియా లోని వివిధ ప్రాంతాల ఆశ్రమాలలో ప్రతులుగా సంరక్షించబడ్డాయి. పాలి, సంస్కృతం, చైనీస్ మరియు టిబెటన్ రచనల నుండి ఆధునిక అనువాదములు తయారుచేయబడ్డాయి.

తత్వ విషయాలను చెప్పిన బౌద్ధ రచన ఏది ?

- (1) సుత్త పీటకం
- (2) వినయ పీటకం
- (3) అభిదమ్మ పీటకం
- (4) మహావంశం

Options :

112807119345 1

112807119346 2

112807119347 3

112807119348 4

Question Number : 242 Question Id : 11280729837 Question Type : MCQ Option Shuffling : No Is Question Mandatory : No Calculator : None Response Time : N.A Think Time : N.A Minimum Instruction Time : 0

Correct Marks : 5 Wrong Marks : 1

Question Key Details :

Key	Value
-----	-------

اقتباس پڑھیں اور سوالوں کے جواب لکھیں۔

بدھا (اور دیگر اساتذہ) نے زبانی پڑھایا۔ مباحث اور استدلال کے ذریعے مراد اور عورت (شاید بچے بھی) اس کے گفتگو کو سننے آتے تھے اور جو سنتے تھے اس پر بحث کرتے تھے۔ بدھا کی زندگی میں ان کی کوئی بھی تقریر نہیں لکھی گئی۔ ان کی رحلت کے بعد (4th-5th BC) وپسالی (پالی میں ویشالی) میں ان کے شاگردوں نے ان کی تعلیمات کو بڑے سادہ اور بڑوں کی کونسل میں جمع کیا۔ ان تعلیمات کوئی پنک (Tipitaka) کہتے ہیں۔ جبکہ لفظی معنی ہے تین نوکریاں الگ الگ طرح کی تحریروں کو رکھنے کیلئے وہ پہلے زبانی منتقل کی گئیں اور پھر لکھی گئیں اور ان کو لمبائی اور موضوع کے حساب سے تقسیم کیا گیا۔

ونے پنک (Vinay Pitaka) میں ساگھا شامل ہونے والوں یا درویش طبقہ میں شامل ہونے والوں کیلئے اصول و ضوابط ہیں۔

بدھ ازم نے نئے علاقوں کا سفر کیا جیسے سری لنکا اور دوسری تصانیف جیسے دیپاوامس (Dipavamsa) جزیرے کی تاریخ اور مہاوامس (Mahavamsa) بڑی تاریخ و ستاویز لکھی گئی۔ جس میں بدھ ازم کی علاقائی تاریخ ان میں سے کچھ تحریریں بدھا کی سوانح ہیں۔ قدیم تحریریں پالی میں ہیں جبکہ بعد کی مرتب تصانیف سنسکرت میں۔

بدھ ازم جب پورے مشرقی ہندوستان میں پھیل گیا تو کچھ یاتری جیسے کہ فابیان (Faxian) اور زوان زانگ (XuanZang) دو چین سے ہوتے ہوئے تصانیف کی تلاش میں ہندوستان پہنچے۔ وہ تصانیف واپس اپنے ملک لے گئے جہاں اسکا لرنے ان کا ترجمہ کیا۔

ہندوستانی بودھی اساتذہ و دراز علاقوں کے سفر کے کتابوں کے ساتھ بدھ ازم کی تبلیغ کر کے پھیلایا۔

بودھی تحریروں کے مخطوطات کو صدیوں تک ایشیا کے مختلف محافظ خانوں میں محفوظ رکھا گیا ہے۔ جدید ترجمہ نگاروں نے پالی، تبتی اور چینی تحاریر سے اس کو تیار کیا۔

کس بودھی تحریری میں فلسفی من سر کو بیان کیا گیا ہے۔

- (1) سوتھپتا کا (Sutta Pitaka)
- (2) وینا پیتا کا (Vinaya Pitaka)
- (3) ابھیدھما پیتا کا (Abhidhamma Pitaka)
- (4) مہاوامس (Mahavamsa)

Options :-

212907119345 1

212907119346 2

212907119347 3

212907119348 4

Question Number : 243 Question Id : 21290719938 Question Type : MCQ Option Shuffling : No Is Question Mandatory : No Calculator : None

Response Time : N.A Think Time : N.A Minimum Instruction Time : 0

Correct Marks : 5 Wrong Marks : 1

Question Key Details :-

Key	Value
Comprehension	Compl

**Read the passage and answer the question :**

The Buddha (and other teachers) taught orally - through discussions and debates. Men and women (perhaps children as well) attended these discourses and discussed what they heard. None of the Buddha's speeches were written down during his lifetime. After his death (c. fifth-fourth century BCE) his teachings were compiled by his disciples at a council of "elders" or senior monks at Vesali (Pali for Vaishali in present-day Bihar). These compilations were known as Tipitaka - literally, three baskets to hold different types of texts. They were first transmitted orally and then written and classified according to length as well as subject matter.

The Vinaya Pitaka included rules and regulations for those who joined the sangha or monastic order; the Buddha's teachings were included in the Sutta Pitaka; and the *Abhidhamma Pitaka* dealt with philosophical matters. Each *pitaka* comprised a number of individual texts. Later, commentaries were written on these texts by Buddhist scholars.

As Buddhism travelled to new regions such as Sri Lanka, other texts such as the *Dipavamsa* (literally, the chronicle of the island) and *Mahavamsa* (the great chronicle) were written, containing regional histories of Buddhism. Many of these works contained biographies of the Buddha. Some of the oldest texts are in Pali, while later compositions are in Sanskrit.

When Buddhism spread to East Asia, pilgrims such as Fa Xian and Xuan Zang travelled all the way from China to India in search of texts. These they took back to their own country, where they were translated by scholars. Indian Buddhist teachers also travelled to faraway places, carrying texts to disseminate the teachings of the Buddha.

The Buddhist texts were preserved in manuscripts for several centuries in monasteries in different parts of Asia. Modern translations have been prepared from Pali, Sanskrit, Chinese and Tibetan texts.

In what text are the rules for the monks and nuns laid down ?

- (1) Mahavamsa
- (2) Sutta Pitaka
- (3) Dipavamsa
- (4) Vinaya Pitaka

Options :

212807119349 1

212807119350 2

212807119351 3

212807119352 4

Question Number : 243 Question Id : 21280719335 Question Type : MCQ Option Shuffling : No Is Question Mandatory : No Calculator : None

Response Time : N.A Think Time : N.A Minimum Instruction Time : 0

Correct Marks : 5 Wrong Marks : 1

Question Key Details :

Key	Value
Comprehension	Comp1

निम्नलिखित गद्यांश को पढ़कर नीचे दिये गये प्रश्न का उत्तर दीजिए :

बुद्ध (अन्य शिक्षकों की तरह) चर्चा और बातचीत करते हुए मौखिक शिक्षा देते थे। महिलाएँ और पुरुष (शावद बच्चे भी) इन प्रवचनों को सुनते थे और इन पर चर्चा करते थे। बुद्ध के किसी भी संभाषण को उनके जीवन काल में लिखा नहीं गया। उनकी मृत्यु के बाद (पाँचवीं-चौथी सदी ई.पू.) उनके शिष्यों ने 'ज्योष्टों' या ज्यादा वरिष्ठ श्रमणों को एक सभा वेसली (बिहार स्थित वैशाली का पालि भाषा में रूप) में बुलाई। वहाँ पर ही उनकी शिक्षाओं का संकलन किया गया। इन संग्रहों को 'त्रिपिटक' (शब्दार्थ भिन्न प्रकार के ग्रंथों को रखने के लिए 'तीन टोकरियाँ') कहा जाता था। पहले उन्हें मौखिक रूप से ही संप्रेषित किया जाता था। बाद में लिखकर विषय और लंबाई के अनुसार वर्गीकरण किया गया।

विनय पिटक में संघ या बौद्ध मठों में रहने वाले लोगों के लिए नियमों का संग्रह था। बुद्ध की शिक्षाएँ *सुत्त पिटक* में रखी गईं और दर्शन से जुड़े विषय *अभिधम्म पिटक* में आए। हर पिटक के अंदर कई ग्रंथ होते थे। बाद के युगों में बौद्ध विद्वानों ने इन ग्रंथों पर टोकारें लिखीं।

जब बौद्ध धर्म श्रीलंका जैसे नए इलाकों में फैला *दीपवंश* (द्वीप का इतिहास) और *महावंश* (महान इतिहास) जैसे क्षेत्र-विशेष के बौद्ध इतिहास को लिखा गया। इनमें से कई रचनाओं में बुद्ध की जीवनी लिखी गई है। ज्यादातर पुराने ग्रंथ पालि में हैं। बाद के युगों में संस्कृत में ग्रंथ लिखे गए।

जब बौद्ध धर्म पूर्व एशिया में फैला तब फा-शिअन और श्वैन त्सांग जैसे तीर्थयात्री बौद्ध ग्रंथों की खोज में चीन से भारत आए। ये पुस्तकें वे अपने देश ले गए जहाँ विद्वानों ने इनका अनुवाद किया। हिन्दुस्तान के बौद्ध शिक्षक भी दूर-दराज के देशों में गए। बुद्ध की शिक्षाओं का प्रसार करने के लिए वे कई पुस्तकें भी अपने साथ ले गए।

कई सदियों तक ये पांडुलिपियाँ एशिया के भिन्न-भिन्न इलाकों में स्थित बौद्ध विहारों में संरक्षित थीं। पालि, संस्कृत, चीनी और तिब्बती भाषाओं में लिखे इन ग्रंथों से आधुनिक अनुवाद तैयार किए गए हैं।

साधु और साध्वियों हेतु नियम कौन-से ग्रंथ में लिखे गये हैं?

- (1) महावंश
- (2) सुत्त पिटक
- (3) दीपवंश
- (4) विनय पिटक

Options :

212807119349 : 1

212807119350 : 2

212807119351 : 3

212807119352 : 4

Question Number : 243 Question Id : 21280719838 Question Type : MCQ Option Shuffling : No Is Question Mandatory : No Calculator : None

Response Time : N/A Think Time : N/A Minimum Instruction Time : 0

Correct Marks : 5 Wrong Marks : 1

Question Key Details :

Key	Value
Comprehension	Compl

তলৰ পাঠ্যব্ধ আৰু প্ৰশ্নসমূহৰ উত্তৰ দিয়া :

গৌতম বুদ্ধ (আৰু অনা শিক্ষকসকলে) মৌখিকভাৱে শিক্ষা প্ৰদান কৰিছিল, আলোচনা আৰু তৰ্কৰ যোগেৰে। পুৰুষ আৰু মহিলা (কেতিয়াবা শিশু) এই বস্তুতাবেশত উপস্থিত আছিল আৰু তেওঁলোকে শুনা কথাবোৰ আলোচনা কৰিছিল। বুদ্ধৰ জীৱন কালত তেওঁৰ কোনো বস্তুতাবেশ ক'তো লিখা হোৱা নাছিল। তেওঁৰ মৃত্যুৰ পিছত (খৃষ্টপূৰ্ব পঞ্চম-চতুৰ্থ শতিকাত) তেওঁৰ শিক্ষা আৰু লিখনসমূহ সংকলিত কৰিছিল তেওঁৰ শিষ্যসকলে একম 'প্ৰাচীন' পৰিষদত মতুবা (মোংক) সন্ন্যাসীসকল বৈশালীত (পালি বৈশালীক কোৱা হয়, বৰ্তমানৰ বিহাৰত অৱস্থিত) এই সংকলনসমূহ ত্ৰিপিটক ৰূপে জনা যায়, তিনি প্ৰকাৰৰ টোপোলা বিভিন্ন ধৰণৰ লিখনি ৰাখিবলৈ। প্ৰথমতে তেওঁলোকে মন্ত্ৰ পাঠ কৰে মৌখিক ৰূপত আৰু তাৰ পিছত লিখিছিল আৰু শ্ৰেণীভুক্ত কৰিছিল তাৰ বিয়ৰ আৰু সৈফাত অনুসৰি।

বিনয় পিতকত সংঘ বা মঠ-মন্দিৰত যোগদান কৰাসকলৰ বাবে নিয়ম-নীতি অন্তৰ্ভুক্ত কৰা হৈছিল, বুদ্ধৰ শিক্ষা সূত্ৰ পিটকত অন্তৰ্ভুক্ত কৰা হৈছিল আৰু অভিব্যক্তি পিটকত দাৰ্শনিক বিয়সমূহ অন্তৰ্ভুক্ত কৰা হৈছিল। প্ৰত্যেকটো পিটকতে কেইবাখনো ব্যক্তিগত গ্ৰন্থ আছিল। পিছলৈ বৌদ্ধ পণ্ডিতসকলৰ দ্বাৰা এই সকলোবোৰ ধাৰাবাহিক ৰূপত লিখা হৈছিল।

বৌদ্ধধৰ্মী ৰূপে শ্ৰীলংকালৈ ভ্ৰমণ কৰিছিল অনা লিখনীয়ে যেনে— 'দীপবংশ' (ঘৌপৰ বুৰঞ্জী) আৰু 'মাধৱবংশ' (মহান বুৰঞ্জী), যুদ্ধৰ আঞ্চলিক ইতিহাসক জড়িত কৰিছিল। ইয়াৰে বহুতো কাম বুদ্ধৰ জীৱনীত সন্নিবিষ্ট কৰা হৈছে। কিছুমান পৌৰাণিক লিখনি পালিত আৰু শেহতীয়াকৈ সংস্কৃতত ৰচনা কৰা হৈছিল।

যেতিয়া বৌদ্ধ ধৰ্ম পূৰ্ব এছিয়াত বিস্তাৰিত হয়, ফাঁ-হিয়ান আৰু হেন চিয়ানৰ দৰে তীৰ্থযাত্ৰীসকলে চীনল পৰা ভাৰতলৈ আহিছিল বুদ্ধৰ লিখিত গ্ৰন্থৰ সন্ধানত। সেৱা তেওঁলোকে নিজৰ দেশলৈ কঢ়িয়াই লৈ যায়, য'ত তেওঁলোকৰ পণ্ডিতৰ দ্বাৰা পুথিসমূহ অনুবাদ কৰায়। ভাৰতীয় বৌদ্ধ শিক্ষকসমূহেও বহু দূৰলৈ ভ্ৰমণ কৰিছিল, গ্ৰন্থসমূহ কঢ়িয়াই লৈ ফুৰিছিল বুদ্ধৰ শিক্ষাক প্ৰসাৰিত কৰাৰ বাবে।

এছিয়াৰ বিভিন্ন বৌদ্ধ ধৰ্মৰ মঠ-মন্দিৰসমূহত বুদ্ধৰ লিখনসমূহৰ পাণ্ডুলিপি বহু শতিকালৈ সংৰক্ষণ কৰা হৈছিল। আধুনিক অনুবাদসমূহ পালি, সংস্কৃত, চীনা আৰু ত্ৰিকাতীয় লিখনীৰ পৰা কৰা হৈছিল।

কোনখন গ্ৰন্থত মোংক আৰু নামসকলৰ বাবে নিৰ্ধাৰণ কৰা হৈছে ?

- (1) মহাবংশ
- (2) সূত্ৰ পিটক
- (3) দীপবংশ
- (4) বিনয় পিটক

Options :

212807119349-1

212807119350-2

212807119351-3

212807119352-4

Question Number : 243 Question Id : 21280719835 Question Type : MCQ Option Shuffling : No Is Question Mandatory : No Calculator : None

Response Time : N.A Think Time : N.A Minimum Instruction Time : 0

Correct Marks : 5 Wrong Marks : 1

Question Key Details :

Key	Value
Comprehension	Comp1

### অনুচ্ছেদটি পড়ো ও প্রশ্নের উত্তর দাও :

বুদ্ধ (ও অন্য গুরুরা) মুখে মুখে পড়াতেন— আলোচনা ও বিতর্কের মাধ্যমে। পুরুষ ও নারীর (সম্ভবতঃ শিশুরাও) এই সভাগুলিতে উপস্থিত থাকত এবং বা তারা বনতো সে বিষয়ে আলোচনা করতো। বুদ্ধের কোন ভাষণ তাঁর জীবদ্দশাকালীন লিখিত হয়নি। তাঁর মৃত্যুর পর (পঞ্চম থেকে চতুর্থ খ্রীষ্ট পূর্বাব্দে) “বদ্বন্ধ” বা প্রবীণ সম্মাসীনী, যারা তাঁর শিষ্য ছিলেন ভেঙ্গালি (পালিতে বৈশালী-বর্তমান বিহারে) তে তাঁরা পরিষদ গঠন করে। বুদ্ধের বাণীগুলি সম্বলিত করেন। এই সম্বলনগুলি ত্রিপিটক নামে পরিচিত— আক্ষরিকভাবে তিনটি পৃথক পত্র যেখানে নানান ধরণের বিষয় রাখা হত। প্রথমে তারা মৌখিক আলোচনা করতো ও তারপর লিখতো এবং দৈর্ঘ্য ও বিষয়বস্তু অনুযায়ী সেগুলি শ্রেণিবিন্যস্ত করা হতো।

দিনয় পিটিকে সংঘ বা মঠে যোগদানকারী শিষ্য-শিষ্যানুল্লীর জন্য নিয়মকানুন সম্বলিত ছিল। বুদ্ধের বাণীসমূহ সূত্র পিটিকে ও অভিধান পিটিকে দার্শনিক বিবরণসমূহ আলোচিত হয়। প্রত্যেক পিটিক বহু বৈশিষ্ট্য কয়েকটি বিষয় নিয়ে গঠিত হয়। পরবর্তী সময়ে পিটিকের বিষয়বস্তুগুলির উপর ধারাবাহিক কাব্য বৌদ্ধ পণ্ডিতদের দ্বারা লিখিত হয়েছিল।

বুদ্ধ নতুন নতুন অঞ্চলে পরিভ্রমণ করেছিলেন, যেমন শ্রীলঙ্কা। সেই মতো বৌদ্ধধর্মের আঞ্চলিক ইতিহাস দীপবংশ (আক্ষরিক অর্থে বীপভূমির ইতিবৃত্ত) ও মহাবংশ (মহাইতিবৃত্ত) লিখিত হয়। এইসকল রচনাগুলির অনেকগুলিতে বুদ্ধের জীবনী বিধৃত আছে। আদি বৌদ্ধ শাস্ত্রের কিছু পালি ভাষায় আর পরবর্তীতে বৌদ্ধশাস্ত্রগুলি সংস্কৃত ভাষায় লিখিত হয়।

বৌদ্ধ ধর্ম পূর্ব এশিয়ায় বিস্তার লাভ করলে পর্যটকরা যেমন— ফা-হিয়েন ও জুয়ান্ জ্যাং চীন থেকে ভারতে এসেছিলেন বৌদ্ধ শাস্ত্রগুলি অনুসন্ধানের জন্য। বহু বৌদ্ধ ধর্ম বিষয়ক তথ্য ও শাস্ত্র-সংগ্রহ করে তারা স্বদেশে নিয়ে যায় যেগুলি বিশেষজ্ঞদের দ্বারা অনূদিত হয়েছিল। ভারতীয় বৌদ্ধ পণ্ডিতরা বহু দূরবর্তী জায়গায় ভ্রমণ করেছিলেন। সঙ্গে তারা বৌদ্ধ ধর্ম সংক্রান্ত গ্রন্থ বহন করতেন, বৌদ্ধ ধর্মের বাণী ছড়িয়ে দেওয়ার জন্য।

বৌদ্ধ সাহিত্যগুলি বহু শতাব্দী যাবৎ পাল্লিলিপি আকারে এশিয়ার বিভিন্ন অঞ্চলের মঠগুলিতে রক্ষিত হয়েছিল। আধুনিক অনুবাদগুলি পালি, সংস্কৃত, চীনা ও তিব্বতী বৌদ্ধ শাস্ত্র-সাহিত্যগুলি থেকে প্রস্তুত করা হয়েছে।

কোন বৌদ্ধ শাস্ত্রে সম্মাসীনী ও সম্মাসিনীদের জন্য নিয়মকানুন বিধৃত আছে ?

- (1) মহাবংশ
- (2) সূত্র পিটক
- (3) দীপবংশ
- (4) দিনয় পিটক

Options :

112807119349 1

112807119350 2

112807119351 3

112807119352 4

Question Number : 243 Question Id : 11280719835 Question Type : MCQ Option Shuffling : No Is Question Mandatory : No Calculator : None  
Response Time : N/A Think Time : N/A Minimum Instruction Time : 0

Correct Marks : 5 Wrong Marks : 1

Question Key Details :

Key	Value
Comprehension	Compl



નીચેનો ફકરોવાંચી પ્રશ્નોના ઉત્તર આપો :

બુદ્ધ (અને અન્ય શિક્ષકો) ચર્ચાઓ અને વિચારણાઓ દ્વારા મૌખિક રીતે ઉપદેશ આપતા હતા. સ્ત્રીઓ અને પુરૂષો (કદાચ બાળકો પણ) આ પ્રવચનોમાં હાજરી આપતા હતા અને તેઓએ જે સાંભળ્યું હતું તેની ચર્ચા કરતા હતા. બુદ્ધના જીવનકાળ દરમિયાન તેમણે એક પણ ભાષણ લખવામાં આવ્યું ન હતું. તેમના મૃત્યુ (સૌથી-પાંચમી સદી BCE) પછી તેમના ઉપદેશોનું વેશાલીમાં (પાલીમાં વેશાલી જે હાલમાં બિહારમાં આવેલું છે) "વડીલો" કે વરીષ્ઠ સાદુઓની પરિષદમાં સંકલન કરવામાં આપ્યું હતું. આ સંકલનો ત્રીપીટક તરીકે ળાણીતા છે જેનો શાબ્દિક અર્થ-વિવિધ પ્રકારના ગ્રંથો રાખવા માટેની ત્રણ ટોપલીઓ થાય છે; તેઓને પ્રથમ મૌખિક રીતે પ્રસારિત કરવામાં આવ્યા હતાં અને બાદમાં લખીને તેની લંબાઈ અને વિષયવસ્તુ પ્રમાણે વર્ગીકૃત કરવામાં આવ્યા હતાં.

વિનય પીટકમાં સંઘ અથવા સાદુઓના ક્રમમાં જોડાવ માટેના નિતીનિયમોનો સમાવેશ થતો હતો. સુત્તપીટક અને અભિધમ્મ પિટક તાત્કીક બાબતો સાથે સંબંધિત છે. દરેક પીટકમાં સંખ્યાવંધ સ્વતંત્ર ગ્રંથોનો સમાવેશ થતો હતો. પાછળથી બુદ્ધીસ્ત વિદ્યાનો દ્વારા આ લખાણો ઉપરની ટીકાઓ લખવામાં આવી હતી.

જ્યારે બુદ્ધ ધર્મ ત્રીલંકા જેવા નવા પ્રદેશોમાં પણેએ છે, ત્યારે બીજા ગ્રંથો જેવાકે દ્વીપવંશ (શાબ્દિક અર્થ-દાપુનો) અને મહાવંશ (મહાન ) લખવામાં આવ્યા હતાં, જેમાં બૌદ્ધ ધર્મનો પ્રાદેશિક ઇતિહાસ સમાવાયેલો છે, તેમાંથી કેટલાક જૂના લખાણો પાલીમાં લખાયા છે, જ્યારે પછીની રચનાઓ સંસ્કૃતમાં લખવામાં આવી છે.

જ્યારે બૌદ્ધ ધર્મ પૂર્વ એશિયામાં ફેલાયો, ડા હિયાન અને હ્યુ-એન-ત્સાંગ જેવા યાત્રાળુઓ આ લખાણોની શોધમાં છેક ચીનથી ભારત સુધી આવ્યા, અને આ લખાણોને તેઓ પોતાના દેશમાં પાછા લઈ ગયા. જ્યાં વિદ્વાનો દ્વારા તેનું ભાષાંતર કરવામાં આવ્યું. ભારતીય બુદ્ધીસ્ત શિક્ષકો પણ બુદ્ધના ઉપદેશોના પ્રસાર માટે દૂરના સ્થળોએ પ્રવાસ કરતો હતાં, આ લખાણ એશિયાના વિવિધ ભાગોમાં આવેલા મઠોમાં સદીઓ સુધી હસ્તપ્રતોમાં સમવાયેલું હતું.

આધુનિક અનુવાદો પાલી, સંસ્કૃત, ચાઈનીઝ અને ત્રીબેટીયન લખાણોમાંથી તૈયાર કરવામાં આવ્યા છે.

નીચેનામાંથી કયા લખાણોમાં સાદુઓ અને સાધ્વીઓ માટેના નિયમો દર્શાવવામાં આપ્યા છે ?

- (1) મહાવંશ
- (2) સુત્ત પીટક
- (3) દ્વીપવંશ
- (4) વીનય પીટક

Options :

212807119349 1

212807119350 2

212807119351 3

212807119352 4

Question Number : 245 Question Id : 21280719355 Question Type : MCQ Option Shuffling : No Is Question Mandatory : No Calculator : None

Response Time : N.A Think Time : N.A Minimum Instruction Time : 0

Correct Marks : 5 Wrong Marks : 1

Question Key Details :

Key	Value
Comprehension	Compl

ವಾಕ್ಯ ಪುಂಜವನ್ನು ಓದಿ ಮತ್ತು ಪ್ರಶ್ನೆಗಳಿಗೆ ಉತ್ತರಿಸಿ :

ಬುದ್ಧ (ಮತ್ತು ಇತರ ಶಿಕ್ಷಕರು) ಸಮಾಲೋಚನೆಗಳು ಮತ್ತು ಚರ್ಚೆಗಳ ಮೂಲಕ ಮೌಖಿಕವಾಗಿ ಕಲಿಸಿದರು. ಪುರುಷರು ಮತ್ತು ಮಹಿಳೆಯರು (ಮಕ್ಕಳು ಸಹ) ಈ ಪ್ರಪಂಚಗಳಿಗೆ ಹಾಬರಾಂ ಅವರು ಏನು ಕೇಳಿಕೊಂಡರೋ ಅದನ್ನು ಚರ್ಚಿಸಿದರು. ಬುದ್ಧನ ಯಾವುದೇ ಭೋಧನೆಗಳನ್ನು ಅವನ ಜೀವಿತ ಅವಧಿಯಲ್ಲಿ ಬರೆಯಲಿಲ್ಲ ಅವನ ಮೃತ್ಯುವಿನ ನಂತರದಲ್ಲಿ (ಸುಮಾರು BCE ಐದನೇ-ಆರನೇ ಶತಮಾನ) ಅವನ ಭೋಧನೆಗಳನ್ನು ಅವನ ಶಿಷ್ಯರು 'ಹಿರಿಯರ' ಸಭೆ ಅಥವಾ ಪಿರಿಯ ದಿಟ್ಟಿಗಳ ಸಮ್ಮುಖದಲ್ಲಿ ವೈಶಾಲಿಯಲ್ಲಿ (ಇವತ್ತಿನ ಬಹಾರದಲ್ಲಿ ಪಾಲಿ) ಸಂಗ್ರಹಿಸಲಾಯಿತು. ಈ ಸಂಗ್ರಹಗಳನ್ನು 'ತ್ರಿಪೀಟಕಗಳು' ಎಂದು ಕರೆಯುತ್ತಾರೆ. ವಾಸ್ತವವಾಗಿ ವಿವಿಧ ರೀತಿಯ ಬರಹಗಳನ್ನು ಹಿಡಿದಿರುವ ಮೂರು ಬುಟ್ಟಿಗಳು. ಅವುಗಳನ್ನು ಮೊದಲು ಮೌಖಿಕವಾಗಿ ಪ್ರಸಾರ ಮಾಡಲಾಯಿತು ಮತ್ತು ನಂತರ ಬರೆದ ಮತ್ತು ಅವಧಿ ಮತ್ತು ವಿಷಯ ವಸ್ತುಗಳ ಪ್ರಕಾರ ವಿಂಗಡಿಸಲಾಯಿತು.

ನಿನ್ನಯ ಪೀಟಕವು ಸಂಘ ಅಥವಾ ಮಠಗಳಿಗೆ ಸೇರುವವರಿಗೆ ನಿಯಮಗಳು ಮತ್ತು ನಿರ್ಬಂಧಗಳನ್ನು ಒಳಗೊಂಡಿದೆ ; ಬುದ್ಧನ ಭೋಧನೆಗಳನ್ನು ಸುಟ್ಟ ಪೀಟಕದಲ್ಲಿ ಸೇರಿಸಲಾಗಿದೆ ಮತ್ತು ಅಭಿಧಮ್ಮ ಪೀಟಕವು ಅಧ್ಯಾತ್ಮ ವಿಷಯಗಳ ಕುರಿತಾಗಿದೆ. ಪತಿಯೊಂದು ಪೀಟಕವು ಬಹುಸಂಖ್ಯೆಯ ವೈಯಕ್ತಿಕ ಬರಹಗಳನ್ನೊಳಗೊಂಡಿತ್ತು. ನಂತರ ಬೌದ್ಧ ವಿಶ್ವಾಸರಿಂದ ಈ ಬರಹಗಳ ಮೇಲೆ ಛಾಪುಗಳನ್ನು ಬರೆಯಲಾಯಿತು.

ಬೌದ್ಧ ಧರ್ಮವು ಹೊಸ ಪ್ರವೇಶಗಳಾದ ಶ್ರೀಲಂಕಾಕ್ಕೆ ಹರಡಿತು. ಇತರ ಬರಹಗಳಾದ ದೀಪವಂಶ (ವಾಸ್ತವವಾಗಿ ದ್ವಿಪಗಳ ಚರಿತ್ರೆ) ಮತ್ತು ಮಹಾವಂಶ (ಅದ್ಭುತ ಚರಿತ್ರೆ) ಬುದ್ಧರ ಪ್ರದೇಶಕ ಇತಿಹಾಸಗಳನ್ನೊಳಗೊಂಡು ಬರೆಯಲ್ಪಟ್ಟಿತು. ಇವುಗಳ ಹಲವು ಬರಹಗಳು ಬುದ್ಧನ ಆತ್ಮ ಚರಿತ್ರೆಯನ್ನೊಳಗೊಂಡಿದೆ. ಕೆಲವು ಹಳೆಯ ಬರಹಗಳು ಪಾಲಿಯಲ್ಲಿದೆ. ಆದರೆ ನಂತರದ ಸಂಯೋಜನೆಗಳು ಸಂಸ್ಕೃತದಲ್ಲಿದೆ.)

ಯಾವಾಗ ಬೌದ್ಧ ಧರ್ಮವು ಪೂರ್ವ ಏಷ್ಯಾಕ್ಕೆ ಪ್ರಸಾರವಾಯಿತೋ, ಆಗ ಯಾತ್ರಾರ್ಥಿಗಳಾದ ಫಾಕ್ಸಿಯಾನ್ ಮತ್ತು ಹ್ಯೂಯೆನ್ ತ್ಸಾಂಗ್ ಚೀನಾದಿಂದ ಭಾರತಕ್ಕೆ ಬರಹಗಳ ಶೋಧನೆಗೆ ಪ್ರವಾಸ ಮಾಡಿದರು. ಇವುಗಳನ್ನು ತಮ್ಮ ದೇಶಕ್ಕೆ ತೆಗೆದು ಕೊಂಡು ಹೋಗಿ, ಅವನ್ನು ಅಲ್ಲಿ ವಿಶ್ವಾಸಿಗಳಿಂದ ಭಾಷಾಂತರ ಗೊಳಿಸಿದರು. ಭಾರತೀಯ ಬೌದ್ಧ ಶಿಕ್ಷಕರು ಸಹ ಬುದ್ಧನ ಭೋಧನೆಗಳನ್ನು ಪ್ರಸಾರ ಮಾಡಲು ಬರಹಗಳನ್ನು ಹೊತ್ತು ದೂರದ ಪ್ರದೇಶಗಳಿಗೆ ಪ್ರಯಾಣ ಬೆಳೆಸಿದರು.

ಬೌದ್ಧರ ಬರಹಗಳನ್ನು ದಿಟ್ಟಾದ ವಿವಿಧ ಭಾಗಗಳಲ್ಲಿ ಹಸ್ತಕೃತಿಯಲ್ಲಿ ಹಲವು ಶತಮಾನದ ವರೆಗೆ ಸಂರಕ್ಷಿಸಲಾಯಿತು. ಆಧುನಿಕ ಭಾಷಾಂತರವನ್ನು ಪಾಲಿ, ಸಂಸ್ಕೃತ, ಚೀನಿ ಮತ್ತು ಟಿಬೆಟೀಸ್ ಬರಹಗಳಿಂದ ತಯಾರಿಸಲಾಗಿದೆ.

ಸನ್ಯಾಸಿ ಮತ್ತು ಸನ್ಯಾಸಿನಿಯರಿಗೆ ಯಾವ ಬರಹದಲ್ಲಿ ನಿಯಮಗಳನ್ನು ಹಾಕಲಾಗಿದೆ ?

- (1) ಮಹಾವಂಶ
- (2) ಸುಟ್ಟ ಪೀಟಕ
- (3) ಧೀಕು ವಂಶ
- (4) ನಿನ್ನಯ ಪೀಟಕ

Options :

- 212807119349 1  
212807119350 2  
212807119351 3  
212807119352 4

Question Number : 243 Question Id : 21280719335 Question Type : MCQ Option Shuffling : No Is Question Mandatory : No Calculator : None  
Response Time : N.A Think Time : N.A Minimum Instruction Time : 0

Correct Marks : 5 Wrong Marks : 1

Question Key Details :

Key	Value
Comprehension	Compl

### उत्तरा वाचा आणि प्रश्न चे उत्तर लिहा :

बुद्ध ( आणि इतर शिक्षक ) मौखिकरित्या चर्चा व वादविवादांद्वारे उपदेश करत. स्त्रिया व पुरुष ( कदाचित लहान मुलेही ) या चर्चेस उपस्थित रहात व आपण काय ऐकले यावर चर्चा करत. बुद्धांच्या जीवनकालात त्यांनी केलेले एकही उपदेश पर भाषण लिहून ठेवले गेले नाही. त्यांच्या मृत्यूनंतर ( इ.स. पू.पाचवे-चौथे शतक ) त्यांच्या शिष्यांनी त्यांच्या उपदेशांचे संग्रह करून ठेवले. हे काम “ श्रेष्ठींची समिती ” किंवा ज्येष्ठ भिक्खूनी वेसाली ( वैशाली चे पाली भाषेतील रूप ) ( वैशाली आजच्या विहारमधे स्थित आहे ) येथे केले. या संग्रहांना तिपिटक म्हणजे शब्दशः विविध ग्रंथ असणारे तीन पेटारे असे म्हटले जाऊ लागले. ते प्रथम मौखिकरित्या व नंतर लिखितरित्या संक्रमित झाले. त्यांचे लांबीनुसार व विषय वस्तुनुसार वर्गीकरण करण्यात आले.

विनय पिटकामध्ये, संघात प्रवेश करून भिक्खू बनणाऱ्यांसाठीचे नियम लिहिले आहेत. बुद्धांचा उपदेश सूतापिटकात तर तत्वज्ञानविषयक बाबींचा अभिगम्य पिटकात समावेश आहे. प्रत्येक पिटकात विविध स्वतंत्र ग्रंथ आहेत. नंतर त्यावर बौद्ध विद्वानांनी टीका लिहिली.

जेव्हा बौद्ध धर्माचा बाहेर उदाहरणार्थ श्रीलंकेत प्रसार झाला, तेव्हा दीपवंश ( जेटाची माहिती ) व महावंश ( थोर ग्रंथ ) लिहिले गेले, ज्यात बौद्ध धर्माच्या प्रांतिक इतिहासाचा समावेश आहे. यापैकी अनेक ग्रंथात बुद्धांच्या चरित्राचा समावेश आहे. काही अति प्राचीन ग्रंथ पाली भाषेत आहेत तर त्यांनंतरच्या काळातील रचना संस्कृतमध्ये आहेत.

पूर्व आशियामध्ये बौद्ध धर्माचा प्रसार झाल्यानंतर फाहियान व झिआतझांग सारखे प्रवासी चिनमधून भारतात ग्रंथांच्या शोधात आले. हे ग्रंथ ते मायदेशी परत घेऊन गेले, जिथे विद्वानांनी त्यांचे भाषांतर केले. भारतीय बौद्ध उपदेशकांनी देखिल सुदूरच्या प्रदेशात बुद्धांच्या उपदेशाचा प्रसार करण्यासाठी ग्रंथ घेऊन प्रवास केला.

आशिया खंडाच्या विविध भागात बौद्ध संघांमध्ये बौद्ध ग्रंथांच्या हस्तलिखितांचे जतन केले गेले. पाली, संस्कृत, चिनी व तिबेटी ग्रंथांवरून आधुनिक भाषांतरे तयार केलेली आहेत.

कोणत्या ग्रंथात बौद्ध भिक्खू आणि भिक्खुणी यांच्या-संबंधिते नियम लिहून ठेवले आहेत ?

- (1) महावंश
- (2) सूतपिटक
- (3) दीपवंश
- (4) विनय पिटक

Options :

212807119349-1

212807119350-2

212807119351-3

212807119352-4

Question Number : 243 Question Id : 21280719335 Question Type : MCQ Option Shuffling : No Is Question Mandatory : No Calculator : None

Response Time : N/A Think Time : N/A Minimum Instruction Time : 0

Correct Marks : 5 Wrong Marks : 1

Question Key Details :

Key	Value
Comprehension	Compl.

താഴെ തന്നിരിക്കുന്ന ഗദ്യഭാഗം വായിച്ച് ഉത്തരം എഴുതുക.

ബുദ്ധനും അതുപോലെ മറ്റ് അധ്യാപകരുചർച്ചകളിലൂടെയും സംവാദങ്ങളിലൂടെയും പഠിപ്പിച്ചു. രൂപപ്പെട്ട കൃതികൾ ഉൾപ്പെടെ ആണ്ണം പെണ്ണും കേട്ടതൊക്കെ ഉൾക്കൊണ്ടു. ബുദ്ധന്റെ ജീവിത കാലത്ത് അദ്ദേഹത്തിന്റെ ഒരു പ്രഭാഷണവും രേഖപ്പെടുത്തപ്പെട്ടിരുന്നില്ല. അദ്ദേഹത്തിന്റെ മരണശേഷം (ബി. സി. 54) അദ്ദേഹത്തെ പിന്തുടരുന്ന ഒരു കൂട്ടം മുതിർന്നവർ ഇതിനെ സൂക്ഷ്മമായി എഴുതി സൂക്ഷിച്ചത് പാലിയീലാണ്. (പാലിയും വൈശാലിയും ഇന്നത്തെ ബിഹാറിലാണ് )

ഈ ബുക്കുകളെ അറിയപ്പെട്ടത് ത്രിപിറ്റക എന്നാണ്. സാഹിത്യപരമായി മൂന്ന് ബാസ്കറ്റുകളിലാണ് ബുക്കുകൾ സൂക്ഷിച്ചത്. ആദ്യം വാമൊഴിയായി പ്രചരിച്ച ഈ ബുക്കുകൾ പിന്നീട് എഴുതപ്പെടുകയും വിഷയത്തിന്റെയും വലുപ്പത്തിന്റെയും അടിസ്ഥാനത്തിൽ വേർതിരിക്കപ്പെടുകയും ചെയ്തു.

വിനയ പീഠക പ്രധാനമായി പ്രതിപാദിച്ചത് സന്യാസ സംഘത്തിൽ ചേരുന്നവർക്കായുള്ള നിർദ്ദേശങ്ങളും നിയമങ്ങളും ആയിരുന്നു. ബുദ്ധന്റെ മറ്റ് രണ്ട് കൃതികളായ വിനയപീഠികയും അഭിതമപീഠികയും തത്വശാസ്ത്രപരമായിരുന്നു. ഓരോ പീഠികയും കുറച്ചു ബുക്കുകളുടെ കൂട്ടമായിരുന്നു. പീഠികകളെന്ന് ബുദ്ധ പണ്ഡിതന്മാർ ഇതിന് ആഖ്യാനങ്ങൾ എഴുതി. ശ്രീലങ്ക പോലുള്ള പുതിയ സ്ഥലങ്ങളിൽ സന്ദർശിച്ച ബുദ്ധന കാലഗണ തയ്യാറാക്കാൻ സഹായിക്കുന്നു. ഭീപവംശ (ഭീപിന്റെ കാലഗണന) മഹാവംശ (മഹത്തായ കാലഗണന) എന്നിവ ബുദ്ധചരിത്രത്തോടൊപ്പം എഴുതി. ചിലതൊക്കെ പാലിയീലാണോ എഴുതപ്പെട്ടതെങ്കിലും പിന്നീട് സംസ്കൃതത്തിലേക്ക് തർജ്ജമ നടത്തി.

ബുദ്ധീസം കീഴക്കൻ ഏഷ്യൻ രാജ്യങ്ങളിലേക്ക് വ്യാപിച്ചപ്പോൾ ചൈനയിൽ നിന്ന് ഫാഹിയൻ, ഹുയാൻ സാങ് എന്നിവർ ഗ്രന്ഥങ്ങൾ അന്വേഷിച്ച് ഇന്ത്യയിലെത്തി. ഇത് അവർ അവരുടെ രാജ്യത്തേക്ക് കൊണ്ടുപോയി. അവർ പണ്ഡിതന്മാരായി തർജ്ജമ ചെയ്തു. ഇന്ത്യയിൽ നിന്നുള്ള ബുദ്ധ സന്യാസിമാരും ലോകത്തിന്റെ പലവശത്തേക്ക് യാത്രചെയ്ത് ബുദ്ധന്റെ ആശയങ്ങൾ ജനങ്ങളിലേക്ക് എത്തിച്ചു.

ബുദ്ധമത ഗ്രന്ഥങ്ങളുടെ കൈയെഴുത്തു പ്രതികൾ ഏഷ്യയിലെ വിവിധ ഭാഗങ്ങളിൽ സൂക്ഷിച്ചിരിക്കുന്നു. പുതിയ വിവർത്തനങ്ങൾ പാലിയീലും സംസ്കൃതത്തിലും ടിബറ്റൻ ഭാഷയിലും ചൈനീസിലും ഉണ്ടായി.

ഏത് പുസ്തകത്തിലാണ് ഭരണാധികാരികളെയും സന്യാസി സന്യാസിനിമാരെയും പറ്റി പ്രതിപാദിച്ചിരിക്കുന്നത് ?

- (1) മഹാവംശ
- (2) സൂതപീഠിക
- (3) ഭീപവംശ
- (4) വിനയപീഠിക

Options :  
 112807119349 1  
 112807119350 2  
 112807119351 3  
 112807119352 4

Key	Value
Comprehension	Comp1

ଅନୁଲେଖକଙ୍କୁ ପଢ଼ନ୍ତୁ ଏବଂ ନିମ୍ନଲିଖିତ ପ୍ରଶ୍ନର ଉତ୍ତର ଦିଅନ୍ତୁ ।

ବୁଦ୍ଧ (ଏବଂ ଆ ପୁରୁମାନେ) ଗୌରବ ରୂପରେ ଶିକ୍ଷା ଦେଉଥିଲେ - ଆନୁଷ୍ଠାନିକ ଆନ୍ଧୋତନ୍ତ୍ର ମାଧ୍ୟମରେ । ସ୍ତ୍ରୀ ଏବଂ ପୁରୁଷ (ଏମିତିକି ପିତାମାନେ ମଧ୍ୟ) ତାଙ୍କର ବହୁତା ଯୋଗଦେଉଥିଲେ ଏବଂ ଯାହା ଶୁଣୁଥିଲେ ତାହା ଆନ୍ଧୋତନ୍ତ୍ର ଛାଡ଼ି ଦେବାକୁ ସମର୍ଥନ ଦେବାକୁ ଚାହୁଁଥିଲେ । ତାଙ୍କର ମୂଲ୍ୟ ପରେ, ତାଙ୍କର ଶିକ୍ଷାମାନଙ୍କର ଦୁଇ ଚାଳକ ଶିକ୍ଷାକୁ ଲିପିବଦ୍ଧ କରାଯାଇଥିଲା, ଯାହାକି ଯେତେବେଳେ ବ୍ୟକ୍ତି ଏବଂ ଚୟୋକୋଷ (ମଦ୍ୟ) ବିକ୍ରିମାନଙ୍କର ଏକ ବଡ଼ ଯାହାକି ବୈଶାକୀ (ପାର୍ଶ୍ଵ ବର୍ତ୍ତମାନର ଦିନର) । ଏହି ସମ୍ବନ୍ଧିତ ଚର୍ଚ୍ଚାକୁ ତିପିତକ ଦ୍ଵାରା ଯାଇଥିଲା । - ବୁଦ୍ଧ ଚିନ୍ତାଟି ସୂଚି, ତିନି ପ୍ରକାରର ଅନୁଲେଖ ଉତ୍ପତ୍ତୀ ପାଇଁ ।

ଯେଉଁମାନେ ସଂସ୍ଠା ଯୋଗଦେଉଥିଲେ ସେମାନଙ୍କ ପାଇଁ ବିନାୟ ପିତକରେ ନିୟମାବଳୀ ଲିପିବଦ୍ଧ ଥିଲା; ବୁଦ୍ଧଙ୍କର ଶିକ୍ଷା ସ୍ଵତନ୍ତ୍ର ପିତକରେ ଲିପିବଦ୍ଧ ହୋଇଥିଲା ଏବଂ ଅନ୍ଧାର ପିତକରେ ପିତାକୋପିତାକ ନିୟମବଦ୍ଧ ଥିଲା । ପ୍ରତି ପିତକରେ ଏକାଧିକ ଅନୁଲେଖ ରହିଥିଲା । ପରବର୍ତ୍ତୀ ସମୟରେ ବୌଦ୍ଧ ଗୁରୁମାନଙ୍କର ଭାଷଣ ଲିପିବଦ୍ଧ ଥିଲା ।

ଶ୍ରୀରାଜା ଜାତି ନୂଆ ଅଞ୍ଚଳକୁ ବୌଦ୍ଧ ଧର୍ମ ବ୍ୟାପିତା ପରେ ବିଭିନ୍ନ ଅନୁଲେଖ ଯଥା - ପିତାକୋପିତାକ (୯ ଛୋଟିକାଲ ଅଫ୍ ଦ ଆଇଲ୍ୟାଣ୍ଡ) କେତାଯାଇଥିଲା ଯେଉଁଥିରେ କି ବୌଦ୍ଧ ଧର୍ମର ଆନ୍ଧକିକ ଉଦ୍ଦିଗାସ କେତାଯାଇଥିଲା । ପ୍ରାଚୀନ ଅନୁଲେଖଗୁଡ଼ିକ ପାଲିଭାଷାରେ, ଏବଂ ପରବର୍ତ୍ତୀ ଅନୁଲେଖଗୁଡ଼ିକ ସଂସ୍କୃତ ଭାଷାରେ ଲିପିବଦ୍ଧ ହୋଇଥିଲା ।

ବୌଦ୍ଧ ଧର୍ମ ପୂର୍ବ ଏସିଆକୁ ପ୍ରସାର ଦେବାବେଳେ, ପାହିଆର ହୁଏନସାଂ ପୁସ୍ତକ ସମ୍ପର୍କରେ ବ୍ୟାପକ ଭାବରେ ଆସିଲେ । ସେମାନେ ନିଜ ଦେଶକୁ ଚାଲିବେଳେ ବିଭିନ୍ନ ଦୁଇ ଅନୁବାଦ ନେଇଗଲେ । ଭାରତୀୟ ବୌଦ୍ଧ ଗୁରୁ ମଧ୍ୟ ଆନେକ ଦୂର ପଶ୍ଚିମାଞ୍ଚଳ କଲେ, ସାଥରେ ପୁସ୍ତକ ନେଇ ବୁଦ୍ଧ ଶିକ୍ଷାକୁ ପ୍ରସାର କରିବା ଉଦ୍ଦେଶ୍ୟରେ ।

ଏସିଆର ବିଭିନ୍ନ ଦେଶରେ ବୌଦ୍ଧ ପୁସ୍ତକଗୁଡ଼ିକୁ ପାଣ୍ଡୁଲିପି ଭାବେ ବୌଦ୍ଧପିତକରେ ରଖାଯାଇଛି । ଆଧୁନିକ ଅନୁବାଦ ସବୁ ପାଲି, ଚାଳନିକ, ସଂସ୍କୃତ ଏବଂ ତିବେଟିୟ ପାଠ୍ୟ ପୁସ୍ତକକୁ ପୁସ୍ତକ ଖୋଲିଛି ।

ନିମ୍ନଲିଖିତ ଅନୁଲେଖ ମଧ୍ୟରୁ କେଉଁଥିରେ ଶିକ୍ଷା ଏବଂ ବିଶୁଦ୍ଧାଙ୍କ ନିମନ୍ତେ ନିୟମାବଳୀ କେତାଯାଇଛି ।

- (1) ନୟାକାଣ
- (2) ବୁଦ୍ଧ ପିତକ
- (3) ନିପଦଂଶ
- (4) ନିନୟ ପିତକ

Options :

212507119349 1

212507119350 2

212507119351 3

212507119352 4

Question Number : 243 Question Id : 212507119335 Question Type : MCQ Option Shuffling : No Is Question Mandatory : No Calculator : None

Response Time : N.A Think Time : N.A Minimum Instruction Time : 0

Correct Marks : 5 Wrong Marks : 1

Question Key Details :

Key	Value
Comprehension	Comp1

ਪੈਰੋ ਨੂੰ ਪੜ੍ਹੋ ਅਤੇ ਨਿਮਨਲਿਖਤ ਪ੍ਰਸ਼ਨ ਦੇ ਉਤਰ ਦਿਓ।

ਬੁੱਧ (ਅਤੇ ਹੋਰ ਗੁਰੂਆਂ) ਨੇ ਮੌਖਿਕ ਰੂਪ ਵਿਚ ਚਰਚਾ ਅਤੇ ਬਹਿਸ ਰਾਹੀਂ ਸਿੱਖਿਆਵਾਂ ਦਿੱਤੀਆਂ। ਆਦਮੀ, ਔਰਤਾਂ (ਸ਼ਾਇਦ ਬੱਚੇ ਵੀ) ਇਨ੍ਹਾਂ ਪ੍ਰਵਚਨਾਂ ਨੂੰ ਸੁਣਦੇ ਅਤੇ ਚਰਚਾ ਕਰਦੇ। ਬੁੱਧ ਦੇ ਜੀਵਨ-ਕਾਲ ਦੌਰਾਨ ਬੁੱਧ ਦਾ ਕੋਈ ਵੀ ਪ੍ਰਵਚਨ ਲਿਖਤ ਵਿਚ ਨਹੀਂ ਆਇਆ। ਬੁੱਧ ਦੀ ਮੌਤ (ਪੰਜਵੀਂ-ਚੌਥੀ ਸਦੀ ਈ.ਪੂ.) ਤੋਂ ਬਾਅਦ ਉਸਦੇ ਸਭ ਤੋਂ ਵੱਡੇ ਚੇਲਿਆਂ ਨੇ ਵੈਸ਼ਾਲੀ (ਵਰਤਮਾਨ ਸਮੇਂ ਦੇ ਬਿਹਾਰ ਵਿਚ ਵੈਸ਼ਾਲੀ ਲਈ ਪਾਲੇ) ਵਿਚ ਇਨ੍ਹਾਂ ਮੌਖਿਕ ਪ੍ਰਵਚਨਾਂ ਨੂੰ ਸੰਕਲਨ ਕੀਤਾ। ਸਾਹਿਤਕ ਤੌਰ 'ਤੇ ਇਨ੍ਹਾਂ ਸੰਕਲਨ ਨੂੰ ਤਿਪਿਤਕਾ ਗ੍ਰੰਥ ਕਿਹਾ ਜਾਂਦਾ ਹੈ, ਜਿਸਦਾ ਅਰਥ ਹੈ ਟੋਕਰੀ ਜਿਸ ਵਿਚ ਤਿੰਨ ਅੱਲਫ਼ ਕਿਸਮ ਦੀਆਂ ਕਿਤਾਬਾਂ ਰੱਖੀਆਂ ਜਾਂਦੀਆਂ ਹਨ। ਪਹਿਲਾਂ ਉਨ੍ਹਾਂ ਦਾ ਮੌਖਿਕ ਰੂਪਾਂਤਰ ਕੀਤਾ ਗਿਆ, ਬਾਅਦ ਵਿਚ ਲਿਖਤੀ ਹੋਇਆ ਅਤੇ ਇਨ੍ਹਾਂ ਦੀ ਵਰਗ ਵੰਡ ਆਕਾਰ ਅਤੇ ਵਿਸ਼ੇ ਦੇ ਆਧਾਰ ਤੇ ਕੀਤੀ ਗਈ।

ਵਿਨਯਪਟਿਕ ਗ੍ਰੰਥ ਵਿਚ ਸੰਘ ਵਿਚ ਸ਼ਾਮਿਲ ਹੋਣ ਵਾਲੇ ਵਿਅਕਤੀਆਂ ਲਈ ਨਿਯਮ ਦਰਜ ਹਨ। ਮਹਾਰਮਾ ਬੁੱਧ ਦੀਆਂ ਸਿੱਖਿਆਵਾਂ ਸੁਤ ਪਟਿਕਾ ਗ੍ਰੰਥ ਵਿਚ ਦਰਜ ਹਨ। ਦਾਰਸ਼ਨਿਕ ਪੱਧਰੀਆਂ ਬਾਰੇ ਅਭਿਧੰਮ ਪਟਿਕਾ ਗ੍ਰੰਥ ਵਿਚ ਜਾਣਕਾਰੀ ਮਿਲਦੀ ਹੈ। ਹਰੇਕ ਪਟਿਕਾ ਦੇ ਆਪਣੇ ਗ੍ਰੰਥ ਵੀ ਹਨ। ਬੋਧੀ ਵਿਚਾਰਕਾਂ ਦੁਆਰਾ ਟਿਪੋਟੀਆਂ ਵੀ ਦਰਜ ਕੀਤੀਆਂ ਗਈਆਂ ਹਨ।

ਬੁੱਧ ਧਰਮ ਸ਼੍ਰੀਲੰਕਾ ਵਿਚ ਪਹੁੰਚਿਆ ਤਾਂ ਦੀਪਵਮਸਾ (ਟਾਪੂ ਦੀ ਲੜੀ) ਅਤੇ ਮਹਾਂਵਮਸਾ ਗ੍ਰੰਥ ਰਚੇ ਗਏ। ਇਨ੍ਹਾਂ ਵਿਚ ਬੁੱਧ ਧਰਮ ਦੀਆਂ ਖੇਤਰੀ ਕਹਾਣੀਆਂ ਦਰਜ ਹਨ। ਇਨ੍ਹਾਂ ਵਿਚ ਬੁੱਧ ਦੇ ਜੀਵਨ ਦਾ ਸ਼ਿਕਰ ਵੀ ਹੈ। ਸਭ ਤੋਂ ਪੁਰਾਣੀਆਂ ਲਿਖਤਾਂ ਪਾਲੀ ਭਾਸ਼ਾ ਵਿਚ ਹਨ ਜਦਕਿ ਸਮਾਂ ਬੀਤਣ ਨਾਲ ਇਨ੍ਹਾਂ ਨੂੰ ਸੰਸਕ੍ਰਿਤ ਭਾਸ਼ਾ ਵਿਚ ਅਨੁਵਾਦਤ ਕਰ ਦਿਤਾ ਗਿਆ।

ਜਦੋਂ ਬੁੱਧ ਧਰਮ ਪੂਰਬ ਵੱਲ ਫੈਲਿਆ ਤਾਂ "ਫਾ ਹੀਯਾਨ" ਅਤੇ "ਜੂ ਯਾਂਗ" ਨੇ ਇਨ੍ਹਾਂ ਲਿਖਤਾਂ ਦੀ ਭਾਲ ਲਈ ਚੀਨ ਤੋਂ ਭਾਰਤ ਦੀ ਯਾਤਰਾ ਕੀਤੀ। ਫਿਰ ਉਹ ਇਨ੍ਹਾਂ ਲਿਖਤਾਂ ਨੂੰ ਆਪਣੇ ਦੇਸ਼ ਲੈ ਗਏ ਅਤੇ ਆਪਣੀ ਭਾਸ਼ਾ ਵਿਚ ਇਨ੍ਹਾਂ ਗ੍ਰੰਥਾਂ ਦਾ ਅਨੁਵਾਦ ਕੀਤਾ। ਭਾਰਤੀ ਬੋਧੀ ਗੁਰੂ ਬੁੱਧ ਦੀਆਂ ਸਿੱਖਿਆਵਾਂ ਨੂੰ ਸੰਸਾਰ ਦੇ ਅਲੱਗ-ਅਲੱਗ ਦੇਸ਼ਾਂ ਵਿਚ ਲੈ ਕੇ ਗਏ।

ਏਸ਼ੀਆ ਦੇ ਅਲੱਗ ਅਲੱਗ ਹਿੱਸਿਆਂ ਵਿਚ ਬੋਧੀ ਮੱਠਾਂ ਵਿਚ ਇਹ ਰਚਨਾਵਾਂ ਸਾਂਭ ਕੇ ਰੱਖੀਆਂ ਗਈਆਂ ਹਨ। ਬੋਧੀ ਰਚਨਾਵਾਂ ਦੇ ਵਰਤਮਾਨ ਰੂਪਾਂਤਰ ਪਾਲੀ, ਸੰਸਕ੍ਰਿਤ, ਚੀਨੀ ਅਤੇ ਤਿੱਬਤੀ ਭਾਸ਼ਾ ਤੋਂ ਕੀਤੇ ਗਏ ਹਨ।

ਕਿਹੜੇ ਗ੍ਰੰਥ ਵਿਚ ਭਿਕਸ਼ੂ ਅਤੇ ਭਿਕਸ਼ਣਾ ਲਈ ਨਿਯਮ ਦਰਜ ਕੀਤੇ ਗਏ ਹਨ?

- (1) ਮਹਾਂਵਮਸਾ
- (2) ਸੁਤ ਪਟਿਕਾ
- (3) ਦੀਪਵਮਸਾ
- (4) ਵਿਨਯ ਪਟਿਕਾ

Options :

212807119349 1

212807119350 2

212807119351 3

212807119352 4

Question Number : 243 Question Id : 21280729838 Question Type : MCQ Option Shuffling : No Is Question Mandatory : No Calculator : None

Response Time : N.A Think Time : N.A Minimum Instruction Time : 0

Correct Marks : 5 Wrong Marks : 1

Question Key Details :

Key	Value
Comprehension	Compl

கீழ்க்காணும் பத்தியைப் படித்து வினாக்களுக்கு விடையளிக்கவும்.

புத்தரும் (ஏனைய இதர போதகர்களும்) விவாதங்கள், கலந்துரையாடல்கள் மூலம் வாய்மொழியாக கூறியுள்ளார். ஆண்கள், பெண்கள் மற்றும் குழந்தைகளும் இந்த கலந்துரையாடல்களில் கலந்து கொண்டனர். தாங்கள் கேட்டவை குறித்து விவாதித்தனர். புத்தரின் சொற்பொழிவுகள் எதுவும், அவர் வாழ்ந்த காலத்தில் எழுதி வைக்கப்படவில்லை. அவர் காலமானதற்கு பிறகு (கி.மு. 3-4-ஆம் நூற்றாண்டு) அவருடைய சீடர்கள், மூத்தவர்கள் அல்லது பெரியவர்கள் அடங்கிய சபையில், வெசாலி என்ற இடத்தில் (வைசாலி பாபி மொழியில்) இவற்றை ஒன்று திரட்டினர். இவை "திரிபீடகா" என்று (மூன்று கூடைகள்) பல்வேறு நூல்கள் கொண்ட தொகுப்பாகும். முதலில் வாய்மொழியாகக் கூறப்பட்ட இவை, பின்னர், நூல்களாக எழுதப்பட்டு, அவற்றின் நீளம் மற்றும் விஷயத்தின் அடிப்படையில் பிரிக்கப்பட்டன.

சங்கம் அல்லது பௌத்த விகாரத்தில் இணைந்தவர்களுக்காக விதிகள் மற்றும் நெறிமுறைகள் விளைய பீடகாவில் இடம் பெற்றன. புத்தரின் போதனைகள் சுத்த பீடகாவிலும், தத்துவார்த்த விஷயங்கள் அபிதம்ம பீடகாவிலும் இடம் பெற்றன. ஒவ்வொரு பீடகாவிலும் தனித்தனியான பல நூல்கள் இடம் பெற்றிருந்தன. பின்னர் இந்த நூல்கள் குறித்து பௌத்த சான்றோர் வர்ணனைகள்/கருத்துக்கள் எழுதினர்.

இலங்கை போன்ற இதர புதிய பிராந்தியங்களுக்கு பௌத்தம் பரவிய போது, அந்த பிராந்தியங்களின் பௌத்த வரலாறுகள் அடங்கிய தீபவம்சம் (தீவு-காலவரிசை) மற்றும் மஹாவம்சம் (மகத்தான காலவரிசை) ஆகியன எழுதப்பட்டன. பெரும்பாலான இந்த நூல்களில் புத்தரின் வாழ்க்கை வரலாறு எழுதப்பட்டிருந்தன. சில பழமைபான புத்தகங்கள் பாபி மொழியில் உள்ளன. இவை பின்னர் சமஸ்கிருத மொழியில் எழுதப்பட்டன.

மொத்த சிழக்காசியாவிற்கு பௌத்தம் பரவிய போது ஃபாஹியான் மற்றும் புலான் சுவாங் சீனாவிலிருந்து இந்தியாவிற்கு இந்த நூல்களைத் தேடி வந்தனர். இவற்றை அவர்கள் தங்கள் சொந்த நாட்டிற்கு கொண்டு சென்றனர். அங்கு அவை சான்றோர்களால் மொழி பெயர்க்கப்பட்டன. புத்தரின் போதனைகளை எடுத்துரைக்க, இந்திய பௌத்த போதகர்கள், பௌத்த நூல்களை தொலைதூர இடங்களுக்கு கொண்டு சென்றனர்.

ஆசியாவின் பல்வேறு பௌத்த மடாபையங்களில், பௌத்த நூல்களின் கையெழுத்துப் பிரதிகள் பல நூற்றாண்டுகளுக்கு பாதுகாக்கப்பட்டன. பாபி, சமஸ்கிருதம், சீனம் மற்றும் திபெத்திய நூல்களில் இருந்து நவீன மொழி பெயர்ப்புகள் செய்யப்பட்டன.

ஆண் மற்றும் பெண் பௌத்த துறவிகளுக்கான (பிக்ஷீக்கள்) விதிகள் எந்த நூலில் கூறப்பட்டு உள்ளன.

- (1) மஹாவம்சா
- (2) சுத்த பீடகா
- (3) தீபவம்சா
- (4) விளைய பீடகா

Options :

212307119349 1

212307119350 2

212307119351 3

212307119352 4

Question Number : 243 Question Id : 21230729835 Question Type : MCQ Option Shuffling : No Is Question Mandatory : No Calculator : None Response Time : N/A Think Time : N/A Minimum Instruction Time : 0

Correct Marks : 5 Wrong Marks : 1

Question Key Details :

Key	Value
Comprehension	Comp1

తీంది గద్యాంశం చదివి ప్రశ్నలకు సమాధానం ఇవ్వండి :

బుద్ధుడు (మరియు ఇతర ఉపాధ్యాయులు) మౌళికముగా తర్కములు మరియు వాదనలతో బోధించారు. పురుషులు మరియు స్త్రీలు (పిల్లలు కూడా) ఈ సంభాషణలు అనుసరించారు మరియు వారు ఏమి విన్నారో చర్చించుకున్నారు. బుద్ధుని ఏ ఒక్క భాషణములు అతని జీవితకాలంలో వ్రాయలేదు. తన మరణానంతరం (c. 54. శతాబ్దం BCE) వైసాలి వద్ద (ప్రస్తుత నీహాల్లో వైశాలి కొరకు పాలి) వృద్ధ సాధువులు లేదా కొన్నిలోలోని పెద్దవారి వద్ద శిష్యులు తన బోధనలని నమకూర్చారు. ఈ నమకూర్పులు త్రిపీడికంగా పిలవబడ్డాయి-సాహిత్యంగా విభిన్న రచనలను చేర్చుటకు మూడు బుట్టలు. అవి మొదటగా వీటితో ప్రచారం చేయబడి తర్వాత వాటి పొడవు మరియు విషయం ప్రకారం రచించబడి వేరు చేయబడ్డాయి.

వినయ పీటకం సంఘంలో చేరిన వారి లేదా సాధు క్రమం యొక్క నియమ నిబంధనలు కలిగి ఉంది. సుత్త పీటికలో బుద్ధుని బోధనలు మరియు అభిదమ్మ పీటకంలో తత్వశాస్త్ర విషయాలు ఉన్నాయి. ప్రతి పీటకం అఖండమైన రచనలు కలిగి ఉంది. తర్వాత బౌద్ధ సంఘాలవే రచనలపై వ్యాఖ్యానాలు చేయబడ్డాయి.

బౌద్ధమతం క్షీలంకకు విస్తరించినపుడు, దీపవంశం (సాహిత్యంగా ద్వీప చరిత్ర) మహావంశం (గొప్ప చరిత్ర) అనే బౌద్ధ మత చరిత్రను కలిగిన రచనలు చేయబడ్డాయి. వీటిలో చాలా బుద్ధుడి ఆత్మకథలు. వీటిలో కొన్ని పురాతన రచనలు పాలిలో మరియు తర్వాత సంస్కృతంలో రచించబడ్డాయి.

తూర్పు ఆసియాకి బౌద్ధమతం వ్యాపించినపుడు ఫా జియాన్ మరియు జ్వాన్ జాంగ్ అను ఇద్దరు భక్తులు చైనా నుండి ఇండియాకి ఈ రచనలను వెతుకుతూ ప్రయాణించారు. వీటిని వారి దేశానికి తీసుకెళ్లి అక్కడ సింఘులు చే అనుమతించారు. బుద్ధుని బోధనలు ప్రచారం చేయడానికి ఈ రచనలని భారత బౌద్ధులు కూడా చాలా దూరం తీసుకెళ్లారు. బుద్ధుని రచనలు చాలా శతాబ్దాలు ఆసియా లోని వివిధ ప్రాంతాల ఆక్రమాలలో ప్రతులుగా సంరక్షించబడ్డాయి. పాలి, సంస్కృతం, చైనీస్ మరియు టిబెటన్ రచనల నుండి ఆధునిక అనువాదములు తయారుచేయబడ్డాయి.

సాధువులు మరియు సన్యాసినిల నియమాలు ఏ రచనలో ఇవ్వబడ్డాయి ?

- (1) మహావంశం
- (2) సుత్త పీటకం
- (3) దీపవంశం
- (4) వినయ పీటకం

Options :

- 212807119349 1
- 212807119350 2
- 212807119353 3
- 212807119353 4

Question Number : 243 Question Id : 21280719838 Question Type : MCQ Option Shuffling : No Is Question Mandatory : No Calculator : None

Response Time : N.A Think Time : N.A Minimum Instruction Time : 0

Correct Marks : 5 Wrong Marks : 1

Question Key Details :



Key	Value
Comprehension	Compl

اقتباس پڑھیں اور سوالوں کے جواب لکھیں۔

بدھ (اور دیگر اساتذہ) نے زبانی پڑھایا۔ مباحث اور استدلال کے ذریعے مراد و معورت (شاید بچے بھی) اس کے گفتگو کو سننے آتے تھے اور جو سنتے تھے اس پر بحث کرتے تھے۔ بدھ کی زندگی میں ان کی کوئی بھی تقریر نہیں لکھی گئی۔ ان کی رحلت کے بعد (4th-5th BC) وپاسی (پالی میں ویشالی) میں ان کے شاگردوں نے ان کی تعلیمات کو بڑے سادہ و یاد دہ کی کونسل میں جمع کیا۔ ان تعلیمات کوئی پیک (Tipitaka) کہتے ہیں۔ جس کا لفظی معنی ہے تین ٹوکریاں الگ الگ طرح کی تحریروں کو رکھنے کیلئے، وہ پہلے زبانی منتقل کی گئیں اور پھر لکھی گئیں اور ان کو لمبائی اور موضوع کے حساب سے تقسیم کیا گیا۔

وئے پیک (Vinay Pitaka) میں ساگھا شامل ہونے والوں یا درویش طبقہ میں شامل ہونے والوں کیلئے اصول و ضوابط ہیں۔

بدھ ازم نے نئے علاقوں کا سفر کیا جیسے سری لنکا اور دوسری تصانیف جیسے دیپاوامس (Dipavamsa) جزیرے کی تاریخ اور مہاوامس (Mahavamsa) بڑی تاریخ و ستاویں لکھی گئی۔ جس میں بدھ ازم کی علاقائی تاریخ ان میں سے کچھ تحریریں بدھ کی سوانح ہیں۔ قدیم تحریریں پالی میں ہیں جبکہ بعد کی مرتب تصانیف سنسکرت میں۔

بدھ ازم جب پورے مشرقی ہندوستان میں پھیل گیا تو کچھ یا تری جیسے کہ فابیان (Faxian) اور زان زانگ (XuanZang) و دیگر چینیوں سے ہوتے ہوئے تصانیف کی تلاش میں ہندوستان پہنچے۔ وہ تصانیف واپس اپنے ملک لے گئے جہاں اسکالرنے ان کا ترجمہ کیا۔

ہندوستانی بودھی اساتذہ دور دراز علاقوں کے سفر کئے کتابوں کے ساتھ بدھ ازم کی تبلیغ کر کے پھیلا یا۔

بودھی تحریروں کے مخطوطات کو صدیوں تک ایشیا کے مختلف محافضہ خانوں میں محفوظ رکھا گیا ہے۔ جدید ترجمہ نگاروں نے پالی، تبتی اور چینی تقاریر سے اس کو تیار کیا۔

کس تحریر میں ساہو اور راہیہ کے ضوابط لکھے گئے ہیں۔

(1) مہاوامس (Mahavamsa)

(2) سوتا پیک (Sutta Pitaka)

(3) دیپاوامس (Dipavamsa)

(4) وینایا پیک (Vinaya Pitaka)

Options :

- 112807119349 1  
112807119350 2  
112807119351 3  
112807119352 4

Question Number : 244 Question Id : 21280729839 Question Type : MCQ Option Skuffing : No Is Question Mandatory : No Calculator : None  
Response Time : N.A Think Time : N.A Minimum Instruction Time : 0  
Correct Marks : 5 Wrong Marks : 1

Question Key Details :

Key	Value
Comprehension	Compl

**Read the passage and answer the question :**

The Buddha (and other teachers) taught orally - through discussions and debates. Men and women (perhaps children as well) attended these discourses and discussed what they heard. None of the Buddha's speeches were written down during his lifetime. After his death (c. fifth-fourth century BCE) his teachings were compiled by his disciples at a council of "elders" or senior monks at Vesali (Pali for Vaishali in present-day Bihar). These compilations were known as Tipitaka - literally, three baskets to hold different types of texts. They were first transmitted orally and then written and classified according to length as well as subject matter.

The Vinaya Pitaka included rules and regulations for those who joined the sangha or monastic order; the Buddha's teachings were included in the Sutta Pitaka; and the *Abhidhamma Pitaka* dealt with philosophical matters. Each *pitaka* comprised a number of individual texts. Later, commentaries were written on these texts by Buddhist scholars.

As Buddhism travelled to new regions such as Sri Lanka, other texts such as the *Dipavamsa* (literally, the chronicle of the island) and *Mahavamsa* (the great chronicle) were written, containing regional histories of Buddhism. Many of these works contained biographies of the Buddha. Some of the oldest texts are in Pali, while later compositions are in Sanskrit.

When Buddhism spread to East Asia, pilgrims such as Fa Xian and Xuan Zang travelled all the way from China to India in search of texts. These they took back to their own country, where they were translated by scholars. Indian Buddhist teachers also travelled to faraway places, carrying texts to disseminate the teachings of the Buddha.

The Buddhist texts were preserved in manuscripts for several centuries in monasteries in different parts of Asia. Modern translations have been prepared from Pali, Sanskrit, Chinese and Tibetan texts.

The Buddhist texts have **NOT** been preserved in which among the following language ?

- (1) Ardhi Magadhi
- (2) Sanskrit
- (3) Tibetan
- (4) Pali

Options :

212807119353-1

212807119354-2

212807119355-3

212807119356-4

Question Number : 244 Question Id : 21280719339 Question Type : MCQ Option Shuffling : No Is Question Mandatory : No Calculator : None

Response Time : N.A Think Time : N.A Minimum Instruction Time : 0

Correct Marks : 5 Wrong Marks : 1

Question Key Details :

Key	Value
Comprehension	Comp1

निम्नलिखित गद्यांश को पढ़कर नीचे दिये गये प्रश्न का उत्तर दीजिए :

बुद्ध (अन्य शिक्षकों की तरह) चर्चा और बातचीत करते हुए मौखिक शिक्षा देते थे। महिलाएँ और पुरुष (शायद बच्चे भी) इन प्रवचनों को सुनते थे और इन पर चर्चा करते थे। बुद्ध के किसी भी संभाषण को उनके जीवन काल में लिखा नहीं गया। उनकी मृत्यु के बाद (पाँचवीं-चौथी सदी ई.पू.) उनके शिष्यों ने 'ज्योष्टों' या ज्यादा वरिष्ठ श्रमणों को एक सभा वेसली (बिहार स्थित वैशाली का पालि भाषा में रूप) में बुलाई। वहाँ पर ही उनकी शिक्षाओं का संकलन किया गया। इन संग्रहों को 'त्रिपिटक' (शब्दार्थ भिन्न प्रकार के ग्रंथों को रखने के लिए 'तीन टोकरियाँ') कहा जाता था। पहले उन्हें मौखिक रूप से ही संप्रेषित किया जाता था। बाद में लिखकर विषय और लंबाई के अनुसार वर्गीकरण किया गया।

विनय पिटक में संघ या बौद्ध मठों में रहने वाले लोगों के लिए नियमों का संग्रह था। बुद्ध की शिक्षाएँ *सुत्त पिटक* में रखी गईं और दर्शन से जुड़े विषय *अभिधम्म पिटक* में आए। हर पिटक के अंदर कई ग्रंथ होते थे। बाद के युगों में बौद्ध विद्वानों ने इन ग्रंथों पर टोकारें लिखीं।

जब बौद्ध धर्म श्रीलंका जैसे नए इलाकों में फैला *दीपवंश* (द्वीप का इतिहास) और *महावंश* (महान इतिहास) जैसे क्षेत्र-विशेष के बौद्ध इतिहास को लिखा गया। इनमें से कई रचनाओं में बुद्ध की जीवनियों लिखी गई हैं। ज्यादातर पुराने ग्रंथ पालि में हैं। बाद के युगों में संस्कृत में ग्रंथ लिखे गए।

जब बौद्ध धर्म पूर्व एशिया में फैला तब फा-शिअन और श्वैन त्सांग जैसे तीर्थयात्री बौद्ध ग्रंथों की खोज में चीन से भारत आए। ये पुस्तकें वे अपने देश ले गए जहाँ विद्वानों ने इनका अनुवाद किया। हिन्दुस्तान के बौद्ध शिक्षक भी दूर-दराज के देशों में गए। बुद्ध की शिक्षाओं का प्रसार करने के लिए वे कई पुस्तकें भी अपने साथ ले गए।

कई सदियों तक ये पांडुलिपियाँ एशिया के भिन्न-भिन्न इलाकों में स्थित बौद्ध विहारों में संरक्षित थीं। पालि, संस्कृत, चीनी और तिब्बती भाषाओं में लिखे इन ग्रंथों से आधुनिक अनुवाद तैयार किए गए हैं।

बौद्ध ग्रंथ निम्न में से कौन-सी भाषा में संरक्षित नहीं है ?

- (1) अर्द्ध मगधी
- (2) संस्कृत
- (3) तिब्बती
- (4) पालि

Options :

212807119353 1

212807119354 2

212807119355 3

212807119356 4

Question Number : 244 Question Id : 21280719839 Question Type : MCQ Option Shuffling : No Is Question Mandatory : No Calculator : None

Response Time : N/A Think Time : N/A Minimum Instruction Time : 0

Correct Marks : 5 Wrong Marks : 1

Question Key Details :

Key	Value
Comprehension	Compl.

তলৰ পাঠ্যশ আৰু প্ৰশ্নসমূহৰ উত্তৰ দিয়া :

গৌতম বুদ্ধ (আৰু অন্য শিক্ষকসকলে) মৌখিকভাৱে শিক্ষা প্ৰদান কৰিছিল, আলোচনা আৰু তৰ্কৰ যোগেৰে। পুৰুষ আৰু মহিলা (কেতিয়াবা শিশু) এই বস্তুতাবেশত উপস্থিত আছিল আৰু তেওঁলোকে শুনা কথাবোৰ আলোচনা কৰিছিল। বুদ্ধৰ জীৱন কালত তেওঁৰ কোনো বস্তুতাবেশ ক'তো লিখা হোৱা নাছিল। তেওঁৰ মৃত্যুৰ পিছত (খৃষ্টপূৰ্ব পঞ্চম-চতুৰ্থ শতিকাত) তেওঁৰ শিক্ষা আৰু লিখনসমূহ সংকলিত কৰিছিল তেওঁৰ শিষ্যসকলে একম 'প্ৰাচীন' পৰিষদত মতুবা (মোংক) সন্ন্যাসীসকল বৈশাঙ্গীত (পালি বৈশাঙ্গীক কোৱা হ'ব, বৰ্তমানৰ বিহাৰত অৱস্থিত) এই সংকলনসমূহ ত্ৰিপিটক ৰূপে জনা যায়, তিনি প্ৰকাৰৰ টোপোলা বিভিন্ন ধৰণৰ লিখনি ৰাখিবলৈ। প্ৰথমতে তেওঁলোকে মন্ত্ৰ পাঠ কৰে মৌখিক ৰূপত আৰু তাৰ পিছত লিখিছিল আৰু শ্ৰেণীভুক্ত কৰিছিল তাৰ বিষয় আৰু সৈধ্যতা অনুসৰি।

দিন্য পিতকত সংঘ বা মঠ-মন্দিৰত যোগদান কৰাসকলৰ বাবে নিয়ম-নীতি অন্তৰ্ভুক্ত কৰা হৈছিল, বুদ্ধৰ শিক্ষা সূত্ৰ পিটকত অন্তৰ্ভুক্ত কৰা হৈছিল আৰু অভিবশ্মা পিটকত দাৰ্শনিক বিষয়সমূহ অন্তৰ্ভুক্ত কৰা হৈছিল। প্ৰত্যেকটো পিটকতে কেইবাখনো ব্যক্তিগত গ্ৰন্থ আছিল। পিছলৈ বৌদ্ধ পণ্ডিতসকলৰ দ্বাৰা এই সকলোবোৰ ধাৰাবাহিক ৰূপত লিখা হৈছিল।

বৌদ্ধধৰ্মী ৰূপে শ্ৰীলংকালৈ ভ্ৰমণ কৰিছিল অন্য লিখনীয়ে যেনে— 'দীপবংশ' (দীপৰ বৃৰঞ্জী) আৰু 'মাধৱবংশ' (মহান বৃৰঞ্জী), বুদ্ধৰ আঞ্চলিক ইতিহাসক জড়িত কৰিছিল। ইয়াৰে বহুতো কাম বুদ্ধৰ জীৱনীত সন্নিবিষ্ট কৰা হৈছে। কিছুমান পৌৰাণিক লিখনি পালিত আৰু শেহতীয়াকৈ সংস্কৃতত ৰচনা কৰা হৈছিল।

যেতিয়া বৌদ্ধ ধৰ্ম পূৰ্ব এছিয়াত বিস্তাৰিত হয়, যাঁ-হিয়ান আৰু হেন চিয়ানৰ দৰে তীৰ্থযাত্ৰীসকলে চীনা পৰা ভাৰতলৈ আহিছিল বুদ্ধৰ লিখিত গ্ৰন্থৰ সন্ধানত। সেৱা তেওঁলোকে নিজৰ দেশলৈ কঢ়িয়াই লৈ যায়, যাঁত তেওঁলোকৰ পণ্ডিতৰ দ্বাৰা পুথিসমূহ অনুবাদ কৰায়। ভাৰতীয় বৌদ্ধ শিক্ষকসমূহেও বহু দূৰলৈ ভ্ৰমণ কৰিছিল, গ্ৰন্থসমূহ কঢ়িয়াই লৈ ফুৰিছিল বুদ্ধৰ শিক্ষাক প্ৰসাৰিত কৰাৰ বাবে।

এছিয়াৰ বিভিন্ন বৌদ্ধ ধৰ্মৰ মঠ-মন্দিৰসমূহত বুদ্ধৰ লিখনসমূহৰ পাণ্ডুলিপি বহু শতিকালৈ সংৰক্ষণ কৰা হৈছিল। আধুনিক অনুবাদসমূহ পালি, সংস্কৃত, চীনা আৰু তিব্বতীয় লিখনীৰ পৰা কৰা হৈছিল।

তলত উল্লেখিত কোনটো ভাষাত বৌদ্ধ গ্ৰন্থ সংৰক্ষিত নহয় ?

- (1) অৰ্গ মগধি
- (2) সংস্কৃত
- (3) তিব্বতী
- (4) পালি

Options :

212807119353 1

212807119354 2

212807119355 3

212807119356 4

Question Number : 244 Question Id : 21280719339 Question Type : MCQ Option Shuffling : No Is Question Mandatory : No Calculator : None

Response Time : N.A Think Time : N.A Minimum Instruction Time : 0

Correct Marks : 5 Wrong Marks : 1

Question Key Details :

Key	Value
Comprehension	Compl

### অনুচ্ছেদটি পড়ো ও প্রশ্নের উত্তর দাও :

বুদ্ধ (ও অন্য গুরুরা) মুখে মুখে পড়াতেন— আলোচনা ও বিতর্কের মাধ্যমে। পুরুষ ও নারীর (সম্ভবতঃ শিশুরাও) এই সভাগুলিতে উপস্থিত থাকত এবং বা তারা বনতো সে বিষয়ে আলোচনা করতো। বুদ্ধের কোন ভাষণ তাঁর জীবদ্দশাকালীন লিখিত হয়নি। তাঁর মৃত্যুর পর (পঞ্চম থেকে চতুর্থ খ্রীষ্ট পূর্বাব্দে) “বদ্বন্ধ” বা প্রবীণ সন্ন্যাসী, যারা তাঁর শিষ্য ছিলেন ভেঙ্গালি (পালিতে বৈশালী-বর্তমান বিহারে) তে তাঁরা পরিষদ গঠন করে। বুদ্ধের বাণীগুলি সম্বলিত করেন। এই সম্বলনগুলি ত্রিপিটক নামে পরিচিত— আক্ষরিকভাবে তিনটি পুথক পাত্র যেখানে নানান ধরণের বিষয় রাখা হত। প্রথমে তারা মৌখিক আলোচনা করতো ও তারপর লিখতো এবং দৈর্ঘ্য ও বিষয়বস্তু অনুযায়ী সেগুলি শ্রেণিবিন্যস্ত করা হতো।

বিদ্য পিটিকে সংঘ বা মঠে যোগদানকারী শিষ্য-শিষ্যামন্ডলীর জন্য নিয়মকানুন সম্বলিত ছিল। বুদ্ধের বাণীসমূহ সূক্ত পিটিকে ও অভিধান পিটিকে দার্শনিক বিবরণসমূহ আলোচিত হয়। প্রত্যেক পিটক বহু বৈশিষ্ট্য বর্ণনা করে একটি বিদ্য নিয়ে গঠিত হয়। পরবর্তী সময়ে পিটকের বিষয়বস্তুগুলির উপর ধারাবাহিক কাব্য বৌদ্ধ পণ্ডিতদের দ্বারা লিখিত হয়েছিল।

বুদ্ধ নতুন নতুন অঞ্চলে পরিভ্রমণ করেছিলেন, যেমন শ্রীলঙ্কা। সেই মতো বৌদ্ধধর্মের আঞ্চলিক ইতিহাস দীপবংশ (আক্ষরিক অর্থে বীপভূমির ইতিবৃত্ত) ও মহাবংশ (মহাইতিবৃত্ত) লিখিত হয়। এইসকল রচনাগুলির অনেকগুলিতে বুদ্ধের জীবনী বিধৃত আছে। আদি বৌদ্ধ শাস্ত্রের কিছু পালি ভাষায় আর পরবর্তীতে বৌদ্ধশাস্ত্রগুলি সংস্কৃত ভাষায় লিখিত হয়।

বৌদ্ধ ধর্ম পূর্ব এশিয়ায় বিস্তার লাভ করলে পর্যটকরা যেমন— ফা-হিয়েন ও জুয়াং জ্যাং চীন থেকে ভারতে এসেছিলেন বৌদ্ধ শাস্ত্রগুলি অনুসন্ধানের জন্য। বহু বৌদ্ধ ধর্ম বিষয়ক তথ্য ও শাস্ত্র-সংগ্রহ করে তারা স্বদেশে নিয়ে যায় যেগুলি বিশেষজ্ঞদের দ্বারা অনূদিত হয়েছিল। ভারতীয় বৌদ্ধ পণ্ডিতরা বহু দূরবর্তী জায়গায় ভ্রমণ করেছিলেন। সঙ্গে তারা বৌদ্ধ ধর্ম সংক্রান্ত গ্রন্থ বহন করতেন, বৌদ্ধ ধর্মের বাণী ছড়িয়ে দেওয়ার জন্য।

বৌদ্ধ সাহিত্যগুলি বহু শতাব্দী যাবৎ পালুলিপি আকারে এশিয়ার বিভিন্ন অঞ্চলের মঠগুলিতে রক্ষিত হয়েছিল। আধুনিক অনুবাদগুলি পালি, সংস্কৃত, চীনা ও তিব্বতী বৌদ্ধ শাস্ত্র-সাহিত্যগুলি থেকে প্রস্তুত করা হয়েছে।

নিচের কোন ভাষায় বৌদ্ধ শাস্ত্রগুলি সংরক্ষিত হয় নি ?

- (1) অর্ধ মগধী
- (2) সংস্কৃতি
- (3) তিব্বতী
- (4) পালি

Options :

212807119333 1

212807119334 2

212807119335 3

212807119336 4

Question Number : 244 Question Id : 21280719839 Question Type : MCQ Option Shuffling : No Is Question Mandatory : No Calculator : None  
Response Time : N/A Think Time : N/A Minimum Instruction Time : 0

Correct Marks : 5 Wrong Marks : 1

Question Key Details :

Key	Value
Comprehension	Compl

નીચેનો ફકરોવાંચી પ્રશ્નોના ઉત્તર આપો :

બુદ્ધ (અને અન્ય શિક્ષકો) ચર્ચાઓ અને વિચારણાઓ દ્વારા મૌખિક રીતે ઉપદેશ આપતા હતા. સ્ત્રીઓ અને પુરુષો (કદાચ બાળકો પણ) આ પ્રવચનોમાં હાજરી આપતા હતા અને તેઓએ જે સાંભળ્યું હતું તેની ચર્ચા કરતા હતા. બુદ્ધના જીવનકાળ દરમિયાન તેમણે એક પણ ભાષણ લખવામાં આવ્યું ન હતું. તેમના મૃત્યુ (સૌથી-ખાંચથી સદી BCE) પછી તેમના ઉપદેશોનું વેશાલીમાં (પાલીમાં વેશાલી જે હાલમાં બિહારમાં આવેલું છે) "વડીલો" કે વરીષ્ઠ સાદુઓની પરિષદમાં સંકલન કરવામાં આવ્યું હતું. આ સંકલનો ત્રીપીટક તરીકે ઓળખાતા છે જેનો શાબ્દિક અર્થ-વિવિધ પ્રકારના ગ્રંથો રાખવા માટેની ત્રણ ટોપલીઓ થાય છે; તેઓને પ્રથમ મૌખિક રીતે પ્રસારિત કરવામાં આવ્યા હતાં અને બાદમાં લખીને તેની લંબાઈ અને વિષયવસ્તુ પ્રમાણે વર્ગીકૃત કરવામાં આવ્યા હતાં.

વિનય પીટકમાં સંઘ અથવા સાદુઓના ક્રમમાં જોડાવ માટેના નિતીનિયમોનો સમાવેશ થતો હતો. સુત્તપીટક અને અભિધમ્મ પિટક તાત્કીક બાબતો સાથે સંબંધિત છે. દરેક પીટકમાં સાંખ્યાવંધ સ્વતંત્ર ગ્રંથોનો સમાવેશ થતો હતો. પાછળથી બુદ્ધીસ્ત વિદ્યાનો દ્વારા આ લખાણો ઉપરની ટીકાઓ લખવામાં આવી હતી.

જ્યારે બુદ્ધ ધર્મ ગ્રીલેંડા જેવા નવા પ્રદેશોમાં પહોંચે છે, ત્યારે બીજા ગ્રંથો જેવાકે દીપવંશ (શાબ્દિક અર્થ-ટાપુનો) અને મહાવંશ (મહાન ) લખવામાં આવ્યા હતાં, જેમાં બૌદ્ધ ધર્મનો પ્રાદેશિક ઇતિહાસ સમાવાયેલો છે, તેમાંથી કેટલાક જૂના લખાણો પાલીમાં લખાયા છે, જ્યારે પછીની રચનાઓ સંસ્કૃતમાં લખવામાં આવી છે.

જ્યારે બૌદ્ધ ધર્મ પૂર્વ એશિયામાં ફેલાયો, ડા હિયાન અને જ્યુ-એન-ત્સાંગ જેવા યાત્રાળુઓ આ લખાણોની શોધમાં છેક ચીનથી ભારત સુધી આવ્યા, અને આ લખાણોને તેઓ પોતાના દેશમાં પાછા લઈ ગયા. જ્યાં વિદ્વાનો દ્વારા તેનું ભાષાંતર કરવામાં આવ્યું. ભારતીય બુદ્ધીસ્ત શિક્ષકો પણ બુદ્ધના ઉપદેશોના પ્રસાર માટે દૂરના સ્થળોએ પ્રવાસ કરતો હતાં. આ લખાણ એશિયાના વિવિધ ભાગોમાં આવેલા મઠોમાં સદીઓ સુધી હસ્તપ્રતોમાં સમવાયેલું હતું.

આધુનિક અનુવાદો પાલી, સંસ્કૃત, ચાઈનીઝ અને તીબેટીયન લખાણોમાંથી તૈયાર કરવામાં આવ્યા છે.

બુદ્ધીસ્ત લખાણો નીચેની ભાષાઓમાંથી \_\_\_\_\_ માં સચવાયેલા નથી :

- (1) અર્ધ માગધી
- (2) સંસ્કૃત
- (3) તીબેટીયન
- (4) પાલી

Options :

212807119353 1

212807119354 2

212807119355 3

212807119356 4

Question Number : 244 Question Id : 21280719359 Question Type : MCQ Option Shuffling : No Is Question Mandatory : No Calculator : None

Response Time : N.A Think Time : N.A Minimum Instruction Time : 0

Correct Marks : 5 Wrong Marks : 1

Question Key Details :

Key	Value
Comprehension	Compl

ವಾಕ್ಯ ಪುಂಜವನ್ನು ಓದಿ ಮತ್ತು ಪ್ರಶ್ನೆಗಳಿಗೆ ಉತ್ತರಿಸಿ :

ಬುದ್ಧ (ಮತ್ತು ಇತರ ಶಿಕ್ಷಕರು) ಸಮಾಲೋಚನೆಗಳು ಮತ್ತು ಚರ್ಚೆಗಳ ಮೂಲಕ ಮೌಖಿಕವಾಗಿ ಕಲಿಸಿದರು. ಪುರುಷರು ಮತ್ತು ಮಹಿಳೆಯರು (ಮಕ್ಕಳು ಸಹ) ಈ ಪ್ರವಚನಗಳಿಗೆ ಹಾಜರಾಗಿ ಅವರು ಏನು ಕೇಳಿಕೊಂಡರೋ ಅದನ್ನು ಚರ್ಚಿಸಿದರು. ಬುದ್ಧನ ಯಾವುದೇ ಭೋಧನೆಗಳನ್ನು ಅವನ ಜೀವಿತ ಅವಧಿಯಲ್ಲಿ ಬರೆಯಲಿಲ್ಲ ಅವನ ಮೃತ್ಯುವಿನ ನಂತರದಲ್ಲಿ (ಸುಮಾರು BCE ಐದನೇ-ಆರನೇ ಶತಮಾನ) ಅವನ ಭೋಧನೆಗಳನ್ನು ಅವನ ಶಿಷ್ಯರು 'ಹಿರಿಯರ' ಸಭೆ ಅಥವಾ ಪಿರಿಯ ದಿಟ್ಟಿಗಳ ಸಮ್ಮುಖದಲ್ಲಿ ವೈಶಾಲಿಯಲ್ಲಿ (ಇವತ್ತಿನ ಬಹಾರದಲ್ಲಿ ಪಾಲಿ) ಸಂಗ್ರಹಿಸಲಾಯಿತು. ಈ ಸಂಗ್ರಹಗಳನ್ನು 'ತ್ರಿಪೀಟಕಗಳು' ಎಂದು ಕರೆಯುತ್ತಾರೆ. ವಾಸ್ತವವಾಗಿ ವಿವಿಧ ರೀತಿಯ ಬರಹಗಳನ್ನು ಹಿಡಿದಿರುವ ಮೂರು ಬುಟ್ಟಿಗಳು. ಅವುಗಳನ್ನು ಮೊದಲು ಮೌಖಿಕವಾಗಿ ಪ್ರಸಾರ ಮಾಡಲಾಯಿತು ಮತ್ತು ನಂತರ ಬರೆದ ಮತ್ತು ಅವಧಿ ಮತ್ತು ವಿಷಯ ವಸ್ತುಗಳ ಪ್ರಕಾರ ವಿಂಗಡಿಸಲಾಯಿತು.

ನಿನ್ನಯ ಪೀಟಕವು ಸಂಘ ಅಥವಾ ಮಠಗಳಿಗೆ ಸೇರುವವರಿಗೆ ನಿಯಮಗಳು ಮತ್ತು ನಿರ್ಬಂಧಗಳನ್ನು ಒಳಗೊಂಡಿದೆ ; ಬುದ್ಧನ ಭೋಧನೆಗಳನ್ನು ಸುಟ್ಟ ಪೀಟಕದಲ್ಲಿ ಸೇರಿಸಲಾಗಿದೆ ಮತ್ತು ಅಭಿಧಮ್ನ ಪೀಟಕವು ಆಧ್ಯಾತ್ಮ ವಿಷಯಗಳ ಕುರಿತಾಗಿದೆ. ಪತಿಯೊಂದು ಪೀಟಕವು ಬಹುಸಂಖ್ಯೆಯ ವೈಯಕ್ತಿಕ ಬರಹಗಳನ್ನೊಳಗೊಂಡಿತ್ತು. ನಂತರ ಬೌದ್ಧ ವಿಶ್ವಾಸರಿಂದ ಈ ಬರಹಗಳ ಮೇಲೆ ಧಾಷ್ಯಗಳನ್ನು ಬರೆಯಲಾಯಿತು.

ಬೌದ್ಧ ಧರ್ಮವು ಪೋಸ ಪ್ರವೇಶಗಳಾದ ಶ್ರೀಲಂಕಾಕ್ಕೆ ಹರಡಿತು. ಇತರ ಬರಹಗಳಾದ ದೀಪವಂತ (ವಾಸ್ತವವಾಗಿ ದ್ವಿಪಗಳ ಚರಿತ್ರೆ) ಮತ್ತು ಮಹಾವಂತ (ಅದ್ಭುತ ಚರಿತ್ರೆ) ಬುದ್ಧರ ಪ್ರದೇಶಕ ಇತಿಹಾಸಗಳನ್ನೊಳಗೊಂಡು ಬರೆಯಲ್ಪಟ್ಟಿತು. ಇವುಗಳ ಹಲವು ಬರಹಗಳು ಬುದ್ಧನ ಆತ್ಮ ಚರಿತ್ರೆಯನ್ನೊಳಗೊಂಡಿದೆ. ಕೆಲವು ಹಳೆಯ ಬರಹಗಳು ಪಾಲಿಯಲ್ಲಿದೆ. ಆದರೆ ನಂತರದ ಸಂಯೋಜನೆಗಳು ಸಂಸ್ಕೃತದಲ್ಲಿದೆ.)

ಯಾವಾಗ ಬೌದ್ಧ ಧರ್ಮವು ಪೂರ್ವ ಏಷ್ಯಾಕ್ಕೆ ಪ್ರಸಾರವಾಯಿತೋ, ಆಗ ಯಾತ್ರಾರ್ಥಿಗಳಾದ ಫಾಕ್ಸಿಯಾನ್ ಮತ್ತು ಹ್ಯೂಯೆನ್ ತ್ಸಾಂಗ್ ಚೀನಾದಿಂದ ಭಾರತಕ್ಕೆ ಬರಹಗಳ ಶೋಧನೆಗೆ ಪ್ರವಾಸ ಮಾಡಿದರು. ಇವುಗಳನ್ನು ತಮ್ಮ ದೇಶಕ್ಕೆ ತೆಗೆದು ಕೊಂಡು ಹೋಗಿ, ಅವನ್ನು ಅಲ್ಲಿ ವಿಶ್ವಾಸಿಗಳಿಂದ ಭಾಷಾಂತರ ಗೊಳಿಸಿದರು. ಭಾರತೀಯ ಬೌದ್ಧ ಶಿಕ್ಷಕರು ಸಹ ಬುದ್ಧನ ಭೋಧನೆಗಳನ್ನು ಪ್ರಸಾರ ಮಾಡಲು ಬರವಣಿಗೆಗಳನ್ನು ಹೊತ್ತು ದೂರದ ಪ್ರದೇಶಗಳಿಗೆ ಪ್ರಯಾಣ ಬೆಳೆಸಿದರು.

ಬೌದ್ಧರ ಬರಹಗಳನ್ನು ಏಷ್ಯಾದ ವಿವಿಧ ಭಾಗಗಳಲ್ಲಿ ಹಸ್ತಕೃತಿಯಲ್ಲಿ ಹಲವು ಶತಮಾನದ ವರೆಗೆ ಸಂರಕ್ಷಿಸಲಾಯಿತು. ಆಧುನಿಕ ಭಾಷಾಂತರವನ್ನು ಪಾಲಿ, ಸಂಸ್ಕೃತ, ಚೀನಿ ಮತ್ತು ಟಿಬೆಟೀಸ್ ಬರಹಗಳಿಂದ ತಯಾರಿಸಲಾಗಿದೆ.

ಬೌದ್ಧರ ಬರಹಗಳನ್ನು ಕೆಳಗಿನ ಒಂದು ಭಾಷೆಯಲ್ಲಿ ಸಂರಕ್ಷಿಸಲಾಗಿಲ್ಲ :

- (1) ಅಧ್ಯ ಮಗಧಿ
- (2) ಸಂಸ್ಕೃತ
- (3) ಟಿಬೆಟಿಯನ್
- (4) ಪಾಲಿ

Options :

- 212807119353 1
- 212807119354 2
- 212807119355 3
- 212807119356 4

Question Number : 244 Question Id : 21280719339 Question Type : MCQ Option Shuffling : No Is Question Mandatory : No Calculator : None Response Time : N.A Think Time : N.A Minimum Instruction Time : 0

Correct Marks : 5 Wrong Marks : 1

Question Key Details :

Key	Value
Comprehension	Compl

## उत्तरा वाचा आणि प्रश्न चे उत्तर लिहा :

बुद्ध ( आणि इतर शिक्षक ) मौखिकरित्या चर्चा व वादविवादांद्वारे उपदेश करत. स्त्रिया व पुरुष ( कदाचित लहान मुलेही ) या चर्चास उपस्थित रहात व आपण काय ऐकले यावर चर्चा करत. बुद्धांच्या जीवनकालात त्यांनी केलेले एकही उपदेश पर भाषण लिहून ठेवले गेले नाही. त्यांच्या मृत्यूनंतर ( इ.स. पू.पाचवे-चौथे शतक ) त्यांच्या शिष्यांनी त्यांच्या उपदेशांचे संग्रह करून ठेवले. हे काम “ श्रेष्ठींची समिती ” किंवा ज्येष्ठ भिक्षुंनी वेसाली ( वैशाली चे पाली भाषेतील रूप ) ( वैशाली आजच्या विहारमधे स्थित आहे ) येथे केले. या संग्रहांना तिपिटक म्हणजे शब्दशः विविध ग्रंथ असणारे तीन पेटारे असे म्हटले जाऊ लागले. ते प्रथम मौखिकरित्या व नंतर लिखितरित्या संक्रमित झाले. त्यांचे लांबीनुसार व विषय वस्तुनुसार वर्गीकरण करण्यात आले.

विनय पिटकामध्ये, संघात प्रवेश करून भिक्षु वनणाऱ्यांसाठीचे नियम लिहिले आहेत. बुद्धांचा उपदेश सूतापिटकात तर तत्वज्ञानविषयक बाबींचा अभिग्रह पिटकात समावेश आहे. प्रत्येक पिटकात विविध स्वतंत्र ग्रंथ आहेत. नंतर त्यावर बौद्ध विद्वानांनी टीका लिहिली.

जेव्हा बौद्ध धर्माचा बाहेर उदाहरणार्थ श्रीलंकेत प्रसार झाला, तेव्हा दीपवंश ( वेदांची माहिती ) व महावंश ( थोर ग्रंथ ) लिहिले गेले, ज्यात बौद्ध धर्माच्या प्रांतिक इतिहासाचा समावेश आहे. यापैकी अनेक ग्रंथात बुद्धांच्या चरित्राचा समावेश आहे. काही अति प्राचीन ग्रंथ पाली भाषेत आहेत तर त्यानंतरच्या काळातील रचना संस्कृतमध्ये आहेत.

पूर्व आशियामध्ये बौद्ध धर्माचा प्रसार झाल्यानंतर फाहियान व झिआतझांग सारखे प्रवासी चिनमधून भारतात ग्रंथांच्या शोधात आले. हे ग्रंथ ते मायदेशी परत घेऊन गेले, जिथे विद्वानांनी त्यांचे भाषांतर केले. भारतीय बौद्ध उपदेशकांनी देखिल सुदुरच्या प्रदेशात बुद्धांच्या उपदेशाचा प्रसार करण्यासाठी ग्रंथ घेऊन प्रवास केला.

आशिया खंडाच्या विविध भागात बौद्ध संघांमध्ये बौद्ध ग्रंथांच्या हस्तलिखितांचे जतन केले गेले. पाली, संस्कृत, चिनी व तिबेटी ग्रंथांवरून आधुनिक भाषांतरे तयार केलेली आहेत.

खालीलपैकी कोणत्या भाषेत बौद्ध ग्रंथ जतन केले गेले नाहीत ?

- (1) अर्ध मागधी
- (2) संस्कृत
- (3) तिबेटी
- (4) पाली

Options :

212807119353-1

212807119354-2

212807119355-3

212807119356-4

Question Number : 244 Question Id : 21280719839 Question Type : MCQ Option Shuffling : No Is Question Mandatory : No Calculator : None

Response Time : N/A Think Time : N/A Minimum Instruction Time : 0

Correct Marks : 5 Wrong Marks : 1

Question Key Details :

Key	Value
Comprehension	Compl.



താഴെ തന്നിരിക്കുന്ന ഗദ്യഭാഗം വായിച്ച് ഉത്തരം എഴുതുക.

ബുദ്ധനും അതുപോലെ മറ്റ് അധ്യാപകരുചർച്ചകളിലൂടെയും സംവാദങ്ങളിലൂടെയും പഠിപ്പിച്ചു. ഒരുപക്ഷെ കൃതികൾ ഉൾപ്പെടെ ആണും പെണ്ണും കേട്ടതൊക്കെ ഉൾക്കൊണ്ടു. ബുദ്ധന്റെ ജീവിത കാലത്ത് അദ്ദേഹത്തിന്റെ ഒരു പ്രഭാഷണവും രേഖപ്പെടുത്തപ്പെട്ടിരുന്നില്ല. അദ്ദേഹത്തിന്റെ മരണശേഷം (ബി. സി. 54) അദ്ദേഹത്തെ പിന്തുടരുന്ന ഒരു കൂട്ടം മുതിർന്നവർ ഇതിനെ സ്മരണയ്ക്കായി എഴുതി സൂക്ഷിച്ചത് പാലിയീലാണ്. (പാലിയും വൈശാലിയും ഇന്നത്തെ ബീഹാറിലാണ് )

ഈ ബുക്കുകളെ അറിയപ്പെട്ടത് ത്രിപിറ്റക എന്നാണ്. സാഹിത്യപരമായി മൂന്ന് ബാസ്കറ്റുകളിലാണ് ബുക്കുകൾ സൂക്ഷിച്ചത്. ആദ്യം വാമൊഴിയായി പ്രചരിച്ച ഈ ബുക്കുകൾ പിന്നീട് എഴുതപ്പെടുകയും വിഷയത്തിന്റെയും വലുപ്പത്തിന്റെയും അടിസ്ഥാനത്തിൽ വേർതിരിക്കപ്പെടുകയും ചെയ്തു.

വിനയ പിഠക പ്രധാനമായി പ്രതിപാദിച്ചത് സന്യാസ സംഘത്തിൽ ചേരുന്നവർക്കായുള്ള നിർദ്ദേശങ്ങളും നിയമങ്ങളും ആയിരുന്നു. ബുദ്ധന്റെ മറ്റ് രണ്ട് കൃതികളായ വിനയപിറ്റികയും അഭിതമപിറ്റികയും തത്വശാസ്ത്രപരമായിരുന്നു. ഓരോ പിറ്റികയും കുറച്ചു ബുക്കുകളുടെ കൂട്ടമായിരുന്നു. പിൽക്കാലത്ത് ബുദ്ധ പണ്ഡിതന്മാർ ഇതിന് ആഖ്യാനങ്ങൾ എഴുതി. ശ്രീലങ്ക പോലുള്ള പുതിയ സ്ഥലങ്ങളിൽ സന്ദർശിച്ച ബുദ്ധന കാലഗണ തയ്യാറാക്കാൻ സഹായിക്കുന്നു. ദീപവംശ (ദീപിന്റെ കാലഗണന) മഹാവംശ (മഹത്തായ കാലഗണന) എന്നിവ ബുദ്ധചരിത്രത്തോടൊപ്പം എഴുതി. ചിലതൊക്കെ പാലിയീലാണോ എഴുതപ്പെട്ടതെങ്കിലും പിന്നീട് സംസ്കൃതത്തിലേക്ക് തർജ്ജമ നടത്തി.

ബുദ്ധീസം കീഴക്കൻ ഏഷ്യൻ രാജ്യങ്ങളിലേക്ക് വ്യാപിച്ചപ്പോൾ ചൈനയിൽ നിന്ന് ഫാഹിയൻ, ഹുയാൻ സാങ് എന്നിവർ ഗ്രന്ഥങ്ങൾ അന്വേഷിച്ച് ഇന്ത്യയിലെത്തി. ഇത് അവർ അവരുടെ രാജ്യത്തേക്ക് കൊണ്ടുപോയി. അവർ പണ്ഡിതന്മാരായി തർജ്ജമ ചെയ്തു. ഇന്ത്യയിൽ നിന്നുള്ള ബുദ്ധ സന്യാസിമാരും ലോകത്തിന്റെ പലവശത്തേക്ക് യാത്രചെയ്ത് ബുദ്ധന്റെ ആശയങ്ങൾ ജനങ്ങളിലേക്ക് എത്തിച്ചു.

ബുദ്ധമത ഗ്രന്ഥങ്ങളുടെ കൈയെഴുത്തു പ്രതികൾ ഏഷ്യയിലെ വിവിധ ഭാഗങ്ങളിൽ സൂക്ഷിച്ചിരിക്കുന്നു. പുതിയ വിവർത്തനങ്ങൾ പാലിയീലും സംസ്കൃതത്തിലും ടിബറ്റൻ ഭാഷയിലും ചൈനീസിലും ഉണ്ടായി.

ബുദ്ധ ഗ്രന്ഥങ്ങൾ സൂക്ഷിക്കപ്പെട്ടിട്ടില്ലാത്ത ഭാഷ

- (1) അർബ്ബ് മഗധി
- (2) സംസ്കൃതം
- (3) ടിബറ്റൻ
- (4) പാലി

Options :  
 212807119353 : 1  
 212807119354 : 1  
 212807119355 : 3  
 212807119356 : 4

Question Number : 144 Question Id : 21280719539 Question Type : MCQ Option Shuffling : No Is Question Mandatory : No Calculator : None  
 Response Time : N/A Think Time : N/A Minimum Instruction Time : 0  
 Correct Marks : 5 Wrong Marks : 1

Question Key Details :

Key	Value
-----	-------

ଅନୁଛେଦଟିରୁ ପଢ଼ନ୍ତୁ ଏବଂ ନିମ୍ନଲିଖିତ ପ୍ରଶ୍ନର ଉତ୍ତର ଦିଅନ୍ତୁ ।

ବୁଦ୍ଧ (ଏବଂ ଆ ତୁରୁମାନେ) ମୌଖିକ ରୂପରେ ଶିକ୍ଷା ଦେଉଥିଲେ - ଆନୁଷ୍ଠାନିକ ଆଲୋଚନା ମାଧ୍ୟମରେ । ସ୍ତ୍ରୀ ଏବଂ ପୁରୁଷ (ଏମିତିକି ପିଲାମାନେ ମଧ୍ୟ) ତାଙ୍କର ସଭୁତା ଯୋଗଦେଉଥିଲେ ଏବଂ ଯାହା ଶୁଣୁଥିଲେ ତାହା ଆଲୋଚନା କରୁଥିଲେ । ବୁଦ୍ଧଙ୍କର କାବନ ସମୟରେ ତାଙ୍କର ବୌଦ୍ଧତା କଥା ଲିପିବଦ୍ଧ ହୋଇନଥିଲା । ତାଙ୍କର ମୃତ୍ୟୁ ପରେ, ତାଙ୍କର ଶିଷ୍ୟମାନଙ୍କର ଦ୍ଵାରା ତାଙ୍କର ଶିକ୍ଷାକୁ ଲିପିବଦ୍ଧ କରାଯାଇଥିଲା, ଯାହାକି ବସ୍ତୁତ୍ୟକ୍ଷେତ୍ର ନ୍ୟାୟି ଏବଂ ବସ୍ତୁତ୍ୟକ୍ଷେତ୍ର (ମଳୟ) ବିଶ୍ଵମାନଙ୍କର ଏକ ସଭା ଯାହାକି ବୈଶାକୀ (ପାଲି ବର୍ଣ୍ଣମାନର ବିଦ୍ୟାର) । ଏହି ସଭାକିତ ବହିଗୁଡ଼ିକୁ ଲିପିବଦ୍ଧ କରାଯାଇଥିଲା । - ସ୍ଵତନ୍ତ୍ର ଭିକାରୀ ଚୁଡ଼ି, ତିନି ପ୍ରକାରର ଅନୁଛେଦ ଗଢ଼ିବା ପାଇଁ ।

ଯେଉଁମାନେ ସଂଘ ଯୋଗଦେଉଥିଲେ ସେମାନଙ୍କ ପାଇଁ ବିକାରୀ ପିତଳରେ ନିୟମାବଳୀ ଲିପିବଦ୍ଧ ଥିଲା; ବୁଦ୍ଧଙ୍କର ଶିକ୍ଷା ସ୍ଵତନ୍ତ୍ର ପିତଳରେ ଲିପିବଦ୍ଧ ହୋଇଥିଲା ଏବଂ ଅଭିଧାନ ପିତଳରେ ପିଲୋସୋଫିକାଲ ବିଷୟବସ୍ତୁ ଥିଲା । ପୁସ୍ତିକ ପିତଳରେ ଏହାକୁ ଅନୁଛେଦ ରଖିଥିଲା । ପରବର୍ତ୍ତୀ ସମୟରେ ବୌଦ୍ଧ ଗୁରୁମାନଙ୍କର ଭାଷଣ ଲିପିବଦ୍ଧ ଥିଲା ।

ଶ୍ରୀଲଙ୍କା ରାଜା ନୂଆ ଆଜ୍ଞାକୁ ବୌଦ୍ଧ ଧର୍ମ ବ୍ୟାପିଲା ପରେ ବିଭିନ୍ନ ଅନୁଛେଦ ଯଥା - ବିପଲମୟା (କ କ୍ଳୋମିକାଲ୍ ଅଫ୍ ଦ ଆଇଲ୍ୟାଣ୍ଡ) ଲେଖାଯାଇଥିଲା ଯେଉଁଥିରେ କି ବୌଦ୍ଧ ଧର୍ମର ଆଞ୍ଚଳିକ ଉଦ୍ଦିଷ୍ଟ ଲେଖାଯାଇଥିଲା । ପ୍ରାରମ୍ଭିକ ଅନୁଛେଦଗୁଡ଼ିକ ପାଲିଭାଷାରେ, ଏବଂ ପରବର୍ତ୍ତୀ ଅନୁଛେଦଗୁଡ଼ିକ ସଂସ୍କୃତ ଭାଷାରେ ଲିପିବଦ୍ଧ ହୋଇଥିଲା ।

ବୌଦ୍ଧ ଧର୍ମ ପୂର୍ବ ଏସିଆକୁ ପ୍ରସାର ହେବାବେଳେ, ପାହିଆନ ସୁ-ଏନସା ପୁସ୍ତକ ସମ୍ପର୍କରେ ଚୀନରୁ ଭାରତ ଆସିଲେ । ସେମାନେ ନିଜ ଦେଶକୁ ଗଲାବେଳେ ବିଜ୍ଞାନ ଦ୍ଵାରା ଅନୁବାଦ ହେଉଥିଲେ । ଭାରତୀୟ ବୌଦ୍ଧ ଗୁରୁ ମଧ୍ୟ ଅନେକ ବୃତ୍ତ ପରିଭ୍ରମଣ କଲେ, ସାଥରେ ପୁସ୍ତକ ଲେଖି ଦୁର୍ଦ୍ଦଳ ଶିକ୍ଷାକୁ ପ୍ରସାର କରିବା ଉଦ୍ଦେଶ୍ୟରେ ।

ଏସିଆର ବିଭିନ୍ନ ଦେଶରେ ବୌଦ୍ଧ ପୁସ୍ତକଗୁଡ଼ିକୁ ପାଣ୍ଡୁଲିପି ଭାବେ ବୌଦ୍ଧପିଠରେ ରଖାଯାଇଛି । ଆଧୁନିକ ଅନୁବାଦ ସବୁ ପାଲି, ତାମିଲ, ସଂସ୍କୃତ ଏବଂ ଚିତ୍ତରିୟ ପାଠ୍ୟ ପୁସ୍ତକରୁ ପ୍ରସ୍ତୁତ ହୋଇଛି ।

ବୌଦ୍ଧ ଅନୁଛେଦଗୁଡ଼ିକ କେଉଁ ଭାଷାରେ ସଂରକ୍ଷଣ କରାଯାଇଛି :

- (1) ଅର୍ଦ୍ଧ ମରଧା
- (2) ସଂସ୍କୃତ
- (3) ଚିତ୍ତଚାର
- (4) ପାଲି

Options :

212807119333 1

212807119334 2

212807119335 3

212807119336 4

Question Number : 244 Question Id : 21280719839 Question Type : MCQ Option Shuffling : No Is Question Mandatory : No Calculator : None Response Time : N.A Think Time : N.A Minimum Instruction Time : 0

Correct Marks : 5 Wrong Marks : 1

Question Key Details :

Key	Value
Comprehension	Comp1

ਪੈਰੋ ਨੂੰ ਪੜ੍ਹੋ ਅਤੇ ਨਿਮਨਲਿਖਤ ਪ੍ਰਸ਼ਨ ਦੇ ਉਤਰ ਦਿਓ।

ਬੁੱਧ (ਅਤੇ ਹੋਰ ਗੁਰੂਆਂ) ਨੇ ਮੌਖਿਕ ਰੂਪ ਵਿਚ ਚਰਚਾ ਅਤੇ ਬਹਿਸ ਰਾਹੀਂ ਸਿੱਖਿਆਵਾਂ ਦਿੱਤੀਆਂ। ਆਦਮੀ, ਔਰਤਾਂ (ਸ਼ਾਇਦ ਬੱਚੇ ਵੀ) ਇਨ੍ਹਾਂ ਪ੍ਰਵਚਨਾਂ ਨੂੰ ਸੁਣਦੇ ਅਤੇ ਚਰਚਾ ਕਰਦੇ। ਬੁੱਧ ਦੇ ਜੀਵਨ-ਕਾਲ ਦੌਰਾਨ ਬੁੱਧ ਦਾ ਕੋਈ ਵੀ ਪ੍ਰਵਚਨ ਲਿਖਤ ਵਿਚ ਨਹੀਂ ਆਇਆ। ਬੁੱਧ ਦੀ ਮੌਤ (ਪੰਜਵੀਂ-ਚੌਥੀ ਸਦੀ ਈ.ਪੂ.) ਤੋਂ ਬਾਅਦ ਉਸਦੇ ਸਭ ਤੋਂ ਵੱਡੇ ਚੇਲਿਆਂ ਨੇ ਵੈਸ਼ਾਲੀ (ਵਰਤਮਾਨ ਸਮੇਂ ਦੇ ਬਿਹਾਰ ਵਿਚ ਵੈਸ਼ਾਲੀ ਲਈ ਪਾਲੇ) ਵਿਚ ਇਨ੍ਹਾਂ ਮੌਖਿਕ ਪ੍ਰਵਚਨਾਂ ਨੂੰ ਸੰਕਲਨ ਕੀਤਾ। ਸਾਹਿਤਕ ਤੌਰ 'ਤੇ ਇਨ੍ਹਾਂ ਸੰਕਲਨ ਨੂੰ ਤਿੱਖਤਕਾ ਗ੍ਰੰਥ ਕਿਹਾ ਜਾਂਦਾ ਹੈ, ਜਿਸਦਾ ਅਰਥ ਹੈ ਟੋਕਰੀ ਜਿਸ ਵਿਚ ਤਿੰਨ ਅੱਲਫ਼ ਕਿਸਮ ਦੀਆਂ ਕਿਤਾਬਾਂ ਰੱਖੀਆਂ ਜਾਂਦੀਆਂ ਹਨ। ਪਹਿਲਾਂ ਉਨ੍ਹਾਂ ਦਾ ਮੌਖਿਕ ਰੂਪਾਂਤਰ ਕੀਤਾ ਗਿਆ, ਬਾਅਦ ਵਿਚ ਲਿਖਤੀ ਹੋਇਆ ਅਤੇ ਇਨ੍ਹਾਂ ਦੀ ਵਰਗ ਵੰਡ ਆਕਾਰ ਅਤੇ ਵਿਸ਼ੇ ਦੇ ਆਧਾਰ ਤੇ ਕੀਤੀ ਗਈ।

ਵਿਨਯਪਟਿਕ ਗ੍ਰੰਥ ਵਿਚ ਸੰਘ ਵਿਚ ਸ਼ਾਮਿਲ ਹੋਣ ਵਾਲੇ ਵਿਅਕਤੀਆਂ ਲਈ ਨਿਯਮ ਦਰਜ ਹਨ। ਮਹਾਰਮਾ ਬੁੱਧ ਦੀਆਂ ਸਿੱਖਿਆਵਾਂ ਸੁਭ ਪਟਿਕਾ ਗ੍ਰੰਥ ਵਿਚ ਦਰਜ ਹਨ। ਦਾਰਸ਼ਨਿਕ ਪੱਧਰੀਆਂ ਬਾਰੇ ਅਭਿਧੰਮ ਪਟਿਕਾ ਗ੍ਰੰਥ ਵਿਚ ਜਾਣਕਾਰੀ ਮਿਲਦੀ ਹੈ। ਹਰੇਕ ਪਟਿਕਾ ਦੇ ਆਪਣੇ ਗ੍ਰੰਥ ਵੀ ਹਨ। ਬੋਧੀ ਵਿਚਾਰਕਾਂ ਦੁਆਰਾ ਟਿੱਪਣੀਆਂ ਵੀ ਦਰਜ ਕੀਤੀਆਂ ਗਈਆਂ ਹਨ।

ਬੁੱਧ ਧਰਮ ਸ਼੍ਰੀਲੰਕਾ ਵਿਚ ਪਹੁੰਚਿਆ ਤਾਂ ਦਾਮਾਸਕਾ (ਟਾਪੂ ਦੀ ਲੜੀ) ਅਤੇ ਮਹਾਂਵਾਸਾ ਗ੍ਰੰਥ ਰਚੇ ਗਏ। ਇਨ੍ਹਾਂ ਵਿਚ ਬੁੱਧ ਧਰਮ ਦੀਆਂ ਖੇਤਰੀ ਕਹਾਣੀਆਂ ਦਰਜ ਹਨ। ਇਨ੍ਹਾਂ ਵਿਚ ਬੁੱਧ ਦੇ ਜੀਵਨ ਦਾ ਸ਼ਿਕਰ ਵੀ ਹੈ। ਸਭ ਤੋਂ ਪੁਰਾਣੀਆਂ ਲਿਖਤਾਂ ਪਾਲੀ ਭਾਸ਼ਾ ਵਿਚ ਹਨ ਜਦਕਿ ਸਮਾਂ ਬੀਤਣ ਨਾਲ ਇਨ੍ਹਾਂ ਨੂੰ ਸੰਸਕ੍ਰਿਤ ਭਾਸ਼ਾ ਵਿਚ ਅਨੁਵਾਦਤ ਕਰ ਦਿਤਾ ਗਿਆ।

ਜਦੋਂ ਬੁੱਧ ਧਰਮ ਪੂਰਬ ਵੱਲ ਫੈਲਿਆ ਤਾਂ "ਫਾ ਹੀਯਾਨ" ਅਤੇ "ਜੂ ਯਾਂਗ" ਨੇ ਇਨ੍ਹਾਂ ਲਿਖਤਾਂ ਦੀ ਭਾਲ ਲਈ ਚੀਨ ਤੋਂ ਭਾਰਤ ਦੀ ਯਾਤਰਾ ਕੀਤੀ। ਫਿਰ ਉਹ ਇਨ੍ਹਾਂ ਲਿਖਤਾਂ ਨੂੰ ਆਪਣੇ ਦੇਸ਼ ਲੈ ਗਏ ਅਤੇ ਆਪਣੀ ਭਾਸ਼ਾ ਵਿਚ ਇਨ੍ਹਾਂ ਗ੍ਰੰਥਾਂ ਦਾ ਅਨੁਵਾਦ ਕੀਤਾ। ਭਾਰਤੀ ਬੋਧੀ ਗੁਰੂ ਬੁੱਧ ਦੀਆਂ ਸਿੱਖਿਆਵਾਂ ਨੂੰ ਸੰਸਾਰ ਦੇ ਅਲੱਗ-ਅਲੱਗ ਦੇਸ਼ਾਂ ਵਿਚ ਲੈ ਕੇ ਗਏ।

ਏਸ਼ੀਆ ਦੇ ਅਲੱਗ ਅਲੱਗ ਹਿੱਸਿਆਂ ਵਿਚ ਬੋਧੀ ਮੱਠਾਂ ਵਿਚ ਇਹ ਰਚਨਾਵਾਂ ਸਾਂਭ ਕੇ ਰੱਖੀਆਂ ਗਈਆਂ ਹਨ। ਬੋਧੀ ਰਚਨਾਵਾਂ ਦੇ ਵਰਤਮਾਨ ਰੂਪਾਂਤਰ ਪਾਲੀ, ਸੰਸਕ੍ਰਿਤ, ਚੀਨੀ ਅਤੇ ਤਿੱਬਤੀ ਭਾਸ਼ਾ ਤੋਂ ਕੀਤੇ ਗਏ ਹਨ।

ਹੇਠ ਲਿਖਿਆਂ ਵਿਚੋਂ ਕਿਸ ਭਾਸ਼ਾ ਬੋਧੀ ਲਿਖਤਾਂ ਸਾਂਭ ਕੇ ਨਹੀਂ ਰੱਖੀਆਂ ਗਈਆਂ?

- (1) ਅਰਧ ਮਾਯਾਧੀ
- (2) ਸੰਸਕ੍ਰਿਤ
- (3) ਤਿੱਬਤੀ
- (4) ਪਾਲੀ

Options :

212807119353 1

212807119354 2

212807119355 3

212807119356 4

Question Number : 244 Question Id : 21280729839 Question Type : MCQ Option Shuffling : No Is Question Mandatory : No Calculator : None

Response Time : N.A Think Time : N.A Minimum Instruction Time : 0

Correct Marks : 5 Wrong Marks : 1

Question Key Details :

Key	Value
Comprehension	Compl

கீழ்க்காணும் பத்தியைப் படித்து வினாக்களுக்கு விடையளிக்கவும்.

புத்தரும் (ஏனைய இதர போதகர்களும்) விலாதங்கள், கலந்துரையாடல்கள் மூலம் வாய்மொழியாக கூறியுள்ளார். ஆண்கள், பெண்கள் மற்றும் குழந்தைகளும் இந்த கலந்துரையாடல்களில் கலந்து கொண்டனர். தாங்கள் கேட்டவை குறித்து விவாதித்தனர். புத்தரின் சொற்பொழிவுகள் எதுவும், அவர் வாழ்ந்த காலத்தில் எழுதி வைக்கப்படவில்லை. அவர் காலமானதற்கு பிறகு (கி.மு. 3-4 -ஆம் நூற்றாண்டு) அவருடைய சீடர்கள், மூத்தவர்கள் அல்லது பெரியவர்கள் அடங்கிய சபையில், வெசாலி என்ற இடத்தில் (வைசாலி பாலி மொழியில்) இவற்றை ஒன்று திரட்டினர். இவை "திரிபீடகா" என்று (மூன்று கூடைகள்) பல்வேறு நூல்கள் கொண்ட தொகுப்பாகும். முதலில் வாய்மொழியாகக் கூறப்பட்ட இவை, பின்னர், நூல்களாக எழுதப்பட்டு, அவற்றின் நீளம் மற்றும் விஷயத்தின் அடிப்படையில் பிரிக்கப்பட்டன.

சங்கம் அல்லது பௌத்த விகாரத்தில் இணைந்தவர்களுக்காக விதிகள் மற்றும் நெறிமுறைகள் விளைய பீடகாவில் இடம் பெற்றன. புத்தரின் போதனைகள் கத்த பீடகாவிலும், தத்துவவார்த்த விஷயங்கள் அபிநம்ம பீடகாவிலும் இடம் பெற்றன. ஒவ்வொரு பீடகாவிலும் தனித்தனியான பல நூல்கள் இடம் பெற்றிருந்தன. பின்னர் இந்த நூல்கள் குறித்து பௌத்த சான்றோர் வர்ணனைகள்/கருத்துக்கள் எழுதினர்.

இலங்கை போன்ற இதர புதிய பிராந்தியங்களுக்கு பௌத்தம் பரவிய போது, அந்த பிராந்தியங்களின் பௌத்த வரலாறுகள் அடங்கிய தீபவம்சம் (தீவு-காலவரிசை) மற்றும் மஹாவம்சம் (மகத்தான காலவரிசை) ஆகியன எழுதப்பட்டன. பெரும்பாலான இந்த நூல்களில் புத்தரின் வாழ்க்கை வரலாறு எழுதப்பட்டிருந்தன. சில பழமைபான புத்தகங்கள் யாலி மொழியில் உள்ளன. இவை பின்னர் சமஸ்கிருத மொழியில் எழுதப்பட்டன.

மொத்த கீழ்க்காசியாவிற்கு பௌத்தம் பரவிய போது பாலியான் மற்றும் புலான் சவாங் சீனாவிலிருந்து இந்தியாவிற்கு இந்த நூல்களைத் தேடி வந்தனர். இவற்றை அவர்கள் தங்கள் சொந்த நாட்டிற்கு கொண்டு சென்றனர். அங்கு அவை சான்றோர்களால் மொழி பெயர்க்கப்பட்டன. புத்தரின் போதனைகளை எடுத்துரைக்க, இந்திய பௌத்த போதகர்கள், பௌத்த நூல்களை தொலைதூர இடங்களுக்கு கொண்டு சென்றனர்.

ஆசியாவின் பல்வேறு பௌத்த மடாலயங்களில், பௌத்த நூல்களின் கையெழுத்துப் பிரதிகள் பல நூற்றாண்டுகளுக்கு பாதுகாக்கப்பட்டன. பாலி, சமஸ்கிருதம், சீனம் மற்றும் திபெத்திய நூல்களில் இருந்து நவீன மொழி பெயர்ப்புகள் செய்யப்பட்டன.

கீழ்க்காண்பதில் எந்த மொழியில் பௌத்த நூல்கள் பாதுகாக்கப்படவில்லை ?

- (1) அர்த மகதி
- (2) சமஸ்கிருதம்
- (3) திபெத்தியன்
- (4) பாலி

Options :

212807119353 3

212807119354 3

212807119355 3

212807119356 4

Question Number : 244 Question Id : 21280729839 Question Type : MCQ Option Shuffling : No Is Question Mandatory : No Calculator : None Response Time : N/A Think Time : N/A Minimum Instruction Time : 0

Correct Marks : 5 Wrong Marks : 1

Question Key Details :

Key	Value
Comprehension	Comp1

కింది గద్యాంశం చదివి ప్రశ్నలకు సమాధానం ఇవ్వండి :

బుద్ధుడు (మరియు ఇతర ఉపాధ్యాయులు) మౌలికముగా తర్కములు మరియు వాదనలతో బోధించారు. పురుషులు మరియు స్త్రీలు (పిల్లలు కూడా) ఈ సంభాషణలు అనుసరించారు మరియు వారు ఏమి విన్నారో చర్చించుకున్నారు. బుద్ధుని ఏ ఒక్క భాషణములు అతని జీవితకాలంలో వ్రాయలేదు. తన మరణానంతరం (c. 54 శతాబ్దం BCE) వైశాలి వద్ద (ప్రస్తుత బీహార్ లో వైశాలి కొరకు పాలి) వృద్ధ సాధువులు లేదా కౌన్సిల్ లోని పెద్దవారి వద్ద శిష్యులు తన బోధనలని సమకూర్చారు. ఈ సమకూర్పులు త్రిపీటికంగా పిలవబడ్డాయి - సాహిత్యంగా విభిన్న రచనలను చేర్చుటకు మూడు ఋట్టలు. అవి మొదటగా వోటితో ప్రచారం చేయబడి తర్వాత వాటి పొడవు మరియు విషయం ప్రకారం రచించబడి వేరు చేయబడ్డాయి.

వినయ పీటకం సంఘంలో చేరిన వారి లేదా సాధు క్రమం యొక్క నియమ నిబంధనలు కలిగి ఉంది. సుత్త పీటికలో బుద్ధుని బోధనలు మరియు ఆభిదమ్మ పీటకంలో తత్వశాస్త్ర విషయాలు ఉన్నాయి. ప్రతి పీటకం అఖండమైన రచనలు కలిగి ఉంది. తర్వాత బౌద్ధ నిపుణులచే రచనలపై వ్యాఖ్యానాలు చేయబడ్డాయి.

బౌద్ధమతం శ్రీలంకకు విస్తరించినపుడు, దీపవంశం (సాహిత్యంగా ద్వీప చరిత్ర) మహావంశం (గొప్ప చరిత్ర) అనే బౌద్ధ మత చరిత్రను కలిగిన రచనలు చేయబడ్డాయి. వీటిలో చాలా బుద్ధుడి ఆత్మకథలు. వీటిలో కొన్ని పురాతన రచనలు పాలిలో మరియు తర్వాత సంస్కృతంలో రచించబడ్డాయి.

తూర్పు అసియాకి బౌద్ధమతం వ్యాపించినపుడు ఫా టియాన్ మరియు జ్యాన్ జాంగ్ అను ఇద్దరు టెక్నులు చైనా నుండి అందియాకి ఈ రచనలను వెతుకుతూ ప్రయాణించారు. వీటిని వారి దేశానికి తీసుకెళ్లి అక్కడ నిపుణులచే అనువదించారు. బుద్ధుని బోధనలు ప్రచారం చేయడానికి ఈ రచనలని భారత బౌద్ధులు కూడా చాలా దూరం తీసుకెళ్ళారు. బుద్ధుని రచనలు చాలా శతాబ్దాలు అసియా లోని వివిధ ప్రాంతాల ఆశ్రమాలలో ప్రతులుగా సంరక్షించబడ్డాయి. పాలి, సంస్కృతం, చైనీస్ మరియు టిబెటన్ రచనల నుండి ఆధునిక అనువాదములు తయారుచేయబడ్డాయి.

బౌద్ధ రచనలు కింది ఏ భాషలో సంరక్షించ బడలేదు ?

- (1) అర్బ్ మగధి
- (2) సంస్కృతం
- (3) టిబెటన్
- (4) పాలి

Options :

212807119353 1

212807119354 2

212807119355 3

212807119356 4

Question Number : 244 Question Id : 21280729839 Question Type : MCQ Option Shuffling : No Is Question Mandatory : No Calculator : None Response Time : N/A Think Time : N/A Minimum Instruction Time : 0

Correct Marks : 5 Wrong Marks : 1

Question Key Details :

Key	Value
-----	-------

اقتباس پڑھیں اور سوالوں کے جواب لکھیں۔

بدھا (اور دیگر اساتذہ) نے زبانی پڑھایا۔ مباحث اور استدلال کے ذریعے مراد اور صورت (شاید بچے بھی) اس کے گفتگو کو سننے آتے تھے اور جو سنتے تھے اس پر بحث کرتے تھے۔ بدھا کی زندگی میں ان کی کوئی بھی تقریر نہیں لکھی گئی۔ ان کی رحلت کے بعد (4th-5th BC) وپسالی (پالی میں ویشالی) میں ان کے شاگردوں نے ان کی تعلیمات کو بڑے سادہ یا بڑوں کی کونسل میں جمع کیا۔ ان تعلیمات کوئی پنک (Tipitaka) کہتے ہیں۔ جبکہ لفظی معنی ہے تین نوکریاں الگ الگ طرح کی تحریروں کو رکھنے کیلئے وہ پہلے زبانی منتقل کی گئیں اور پھر لکھی گئیں اور ان کو لمبائی اور موضوع کے حساب سے تقسیم کیا گیا۔

ونے پنک (Vinay Pitaka) میں ساگھا شامل ہونے والوں یا درویش طبقہ میں شامل ہونے والوں کیلئے اصول و ضوابط ہیں۔

بدھ ازم نے نئے علاقوں کا سفر کیا جیسے سری لنکا اور دوسری تصانیف جیسے دیپاوامسہ (Dipavamsa) جزیرے کی تاریخ اور مہاوامسہ (Mahavamsa) بڑی تاریخ و ستاویز لکھی گئی۔ جس میں بدھ ازم کی علاقائی تاریخ ان میں سے کچھ تحریریں بدھا کی سوانح ہیں۔ قدیم تحریریں پالی میں ہیں جبکہ بعد کی مرتب تصانیف سنسکرت میں۔

بدھ ازم جب پورے مشرقی ہندوستان میں پھیل گیا تو کچھ یا تری جیسے کہ فایان (Faxian) اور وان زانگ (XuanZang) دو چین سے ہوتے ہوئے تصانیف کی تلاش میں ہندوستان پہنچے۔ وہ تصانیف واپس اپنے ملک لے گئے جہاں اسکا لرنے ان کا ترجمہ کیا۔

ہندوستانی بودھی اساتذہ دور دراز علاقوں کے سفر کے کتابوں کے ساتھ بدھا ازم کی تبلیغ کر کے پھیلایا۔

بودھی تحریروں کے مخطوطات کو صدیوں تک ایشیا کے مختلف محافظ خانوں میں محفوظ رکھا گیا ہے۔ جدید ترجمہ نگاروں نے پالی، تبتی اور چینی تحاریر سے اس کو تیار کیا۔

بودھی تحریروں میں مندرجہ ذیل زبان میں نہیں محفوظ کی گئیں۔

(1) اردھ مگدھی (Ardh Magadhi)

(2) سنسکرت (Sanskrit)

(3) تبتی (Tibetan)

(4) پالی (Pali)

Options :-

212807119353 1

212807119354 2

212807119355 3

212807119356 4

Question Number : 245 Question Id : 21280719540 Question Type : MCQ Option Shuffling : No Is Question Mandatory : No Calculator : None

Response Time : N.A Think Time : N.A Minimum Instruction Time : 0

Correct Marks : 5 Wrong Marks : 1

Question Key Details :-

Key	Value
Comprehension	Comp1

**Read the passage and answer the question :**

The Buddha (and other teachers) taught orally - through discussions and debates. Men and women (perhaps children as well) attended these discourses and discussed what they heard. None of the Buddha's speeches were written down during his lifetime. After his death (c. fifth-fourth century BCE) his teachings were compiled by his disciples at a council of "elders" or senior monks at Vesali (Pali for Vaishali in present-day Bihar). These compilations were known as Tipitaka - literally, three baskets to hold different types of texts. They were first transmitted orally and then written and classified according to length as well as subject matter.

The Vinaya Pitaka included rules and regulations for those who joined the sangha or monastic order; the Buddha's teachings were included in the Sutta Pitaka; and the *Abhidhamma Pitaka* dealt with philosophical matters. Each *pitaka* comprised a number of individual texts. Later, commentaries were written on these texts by Buddhist scholars.

As Buddhism travelled to new regions such as Sri Lanka, other texts such as the *Dipavamsa* (literally, the chronicle of the island) and *Mahavamsa* (the great chronicle) were written, containing regional histories of Buddhism. Many of these works contained biographies of the Buddha. Some of the oldest texts are in Pali, while later compositions are in Sanskrit.

When Buddhism spread to East Asia, pilgrims such as Fa Xian and Xuan Zang travelled all the way from China to India in search of texts. These they took back to their own country, where they were translated by scholars. Indian Buddhist teachers also travelled to faraway places, carrying texts to disseminate the teachings of the Buddha.

The Buddhist texts were preserved in manuscripts for several centuries in monasteries in different parts of Asia. Modern translations have been prepared from Pali, Sanskrit, Chinese and Tibetan texts.

Asoka distributed portions of the Buddha's relics to every important town and ordered the construction of 'stupas' over them. Which of the following texts contains this detail ?

- (1) Mahavamsa
- (2) Vinaya Pitaka
- (3) Ashokavadana
- (4) Abhidhamma Pitaka

Options :

212807119557-1

212807119558-1

212807119559-3

212807119560-4

Question Number : 145 Question Id : 21280719640 Question Type : MCQ Option Shuffling : No Is Question Mandatory : No Calculator : None

Response Time : N/A Think Time : N/A Minimum Instruction Time : 0

Correct Marks : 5 Wrong Marks : 1

Question Key Details :

Key	Value
Comprehension	Compl

निम्नलिखित गद्यांश को पढ़कर नीचे दिये गये प्रश्न का उत्तर दीजिए :

बुद्ध (अन्य शिक्षकों की तरह) चर्चा और बातचीत करते हुए मौखिक शिक्षा देते थे। महिलाएँ और पुरुष (शावद बच्चे भी) इन प्रवचनों को सुनते थे और इन पर चर्चा करते थे। बुद्ध के किसी भी संभाषण को उनके जीवन काल में लिखा नहीं गया। उनकी मृत्यु के बाद (पाँचवीं-चौथी सदी ई.पू.) उनके शिष्यों ने 'ज्योष्टों' या ज्यादा वरिष्ठ श्रमणों को एक सभा वेसली (बिहार स्थित वैशाली का पालि भाषा में रूप) में बुलाई। वहाँ पर ही उनकी शिक्षाओं का संकलन किया गया। इन संग्रहों को 'त्रिपिटक' (शब्दार्थ भिन्न प्रकार के ग्रंथों को रखने के लिए 'तीन टोकरियाँ') कहा जाता था। पहले उन्हें मौखिक रूप से ही संप्रेषित किया जाता था। बाद में लिखकर विषय और लंबाई के अनुसार वर्गीकरण किया गया।

विनय पिटक में संघ या बौद्ध मठों में रहने वाले लोगों के लिए नियमों का संग्रह था। बुद्ध की शिक्षाएँ *सुत्त पिटक* में रखी गईं और दर्शन से जुड़े विषय *अभिधम्म पिटक* में आए। हर पिटक के अंदर कई ग्रंथ होते थे। बाद के युगों में बौद्ध विद्वानों ने इन ग्रंथों पर टोकारें लिखीं।

जब बौद्ध धर्म श्रीलंका जैसे नए इलाकों में फैला *दीपवंश* (द्वीप का इतिहास) और *महावंश* (महान इतिहास) जैसे क्षेत्र-विशेष के बौद्ध इतिहास को लिखा गया। इनमें से कई रचनाओं में बुद्ध की जीवनी लिखी गई है। ज्यादातर पुराने ग्रंथ पालि में हैं। बाद के युगों में संस्कृत में ग्रंथ लिखे गए।

जब बौद्ध धर्म पूर्व एशिया में फैला तब फा-शिअन और श्वैन त्सांग जैसे तीर्थयात्री बौद्ध ग्रंथों की खोज में चीन से भारत आए। ये पुस्तकें वे अपने देश ले गए जहाँ विद्वानों ने इनका अनुवाद किया। हिन्दुस्तान के बौद्ध शिक्षक भी दूर-दराज के देशों में गए। बुद्ध की शिक्षाओं का प्रसार करने के लिए वे कई पुस्तकें भी अपने साथ ले गए।

कई सदियों तक ये पांडुलिपियाँ एशिया के भिन्न-भिन्न इलाकों में स्थित बौद्ध विहारों में संरक्षित थीं। पालि, संस्कृत, चीनी और तिब्बती भाषाओं में लिखे इन ग्रंथों से आधुनिक अनुवाद तैयार किए गए हैं।

अशोक ने बुद्ध के अवशेषों के अंशों को सभी महत्वपूर्ण नगरों में वितरित किया तथा उस स्थान पर 'स्तूप' निर्माण का आदेश दिया। इस विचार को कौन-से ग्रंथ में सम्मिलित किया गया है?

- (1) महावंश
- (2) विनय पिटक
- (3) अशोकावदन
- (4) अभिधम्म पिटक

Options :

212807119357 1

212807119358 2

212807119359 3

212807119360 4

Question Number : 245 Question Id : 21280719340 Question Type : MCQ Option Shuffling : No Is Question Mandatory : No Calculator : None

Response Time : N.A Think Time : N.A Minimum Instruction Time : 0

Correct Marks : 5 Wrong Marks : 1

Question Key Details :

Key	Value
Comprehension	Compl



তলৰ পাঠ্যশ আৰু প্ৰশ্নসমূহৰ উত্তৰ দিয়া :

গৌতম বুদ্ধ (আৰু অন্য শিক্ষকসকলে) মৌখিকভাৱে শিক্ষা প্ৰদান কৰিছিল, আলোচনা আৰু তৰ্কৰ যোগেৰে। পুৰুষ আৰু মহিলা (কেতিয়াবা শিশু) এই বস্তুতাবেশত উপস্থিত আছিল আৰু তেওঁলোকে শুনা কথাবোৰ আলোচনা কৰিছিল। বুদ্ধৰ জীৱন কালত তেওঁৰ কোনো বস্তুতাবেশ ক'তো লিখা হোৱা নাছিল। তেওঁৰ মৃত্যুৰ পিছত (খৃষ্টপূৰ্ব পঞ্চম-চতুৰ্থ শতিকাত) তেওঁৰ শিক্ষা আৰু লিখনসমূহ সংকলিত কৰিছিল তেওঁৰ শিষ্যসকলে একম 'প্ৰাচীন' পৰিষদত মতুবা (মোংক) সন্ন্যাসীসকল বৈশাঙ্গীত (পালি বৈশাঙ্গীক কোৱা হ'ব, বৰ্তমানৰ বিহাৰত অৱস্থিত) এই সংকলনসমূহ ত্ৰিপিটক ৰূপে জনা যায়, তিনি প্ৰকাৰৰ টোপোলা বিভিন্ন ধৰণৰ লিখনি ৰখিবলৈ। প্ৰথমতে তেওঁলোকে মন্ত্ৰ পাঠ কৰে মৌখিক ৰূপত আৰু তাৰ পিছত লিখিছিল আৰু শ্ৰেণীভুক্ত কৰিছিল তাৰ বিষয় আৰু সৈধ্যতা অনুসৰি।

দিন্য পিতকত সংঘ বা মঠ-মন্দিৰত যোগদান কৰাসকলৰ বাবে নিয়ম-নীতি অন্তৰ্ভুক্ত কৰা হৈছিল, বুদ্ধৰ শিক্ষা সূত্ৰ পিটকত অন্তৰ্ভুক্ত কৰা হৈছিল আৰু অভিবশ্মা পিটকত দাৰ্শনিক বিষয়সমূহ অন্তৰ্ভুক্ত কৰা হৈছিল। প্ৰত্যেকটো পিটকতে কেইবাখনো ব্যক্তিগত গ্ৰন্থ আছিল। পিছলৈ বৌদ্ধ পণ্ডিতসকলৰ দ্বাৰা এই সকলোবোৰ ধাৰাবাহিক ৰূপত লিখা হৈছিল।

বৌদ্ধধৰ্মী ৰূপে শ্ৰীলংকালৈ ভ্ৰমণ কৰিছিল অন্য লিখনীয়ে যেনে— 'দীপবংশ' (দীপৰ বৃৰঞ্জী) আৰু 'মাধৱবংশ' (মহান বৃৰঞ্জী), বুদ্ধৰ আঞ্চলিক ইতিহাসক জড়িত কৰিছিল। ইয়াৰে বহুতো কাম বুদ্ধৰ জীৱনীত সন্নিবিষ্ট কৰা হৈছে। কিছুমান পৌৰাণিক লিখনি পালিত আৰু শেহতীয়াকৈ সংস্কৃতত ৰচনা কৰা হৈছিল।

যেতিয়া বৌদ্ধ ধৰ্ম পূৰ্ব এছিয়াত বিস্তাৰিত হয়, যাঁ-হিয়ান আৰু হেন চিয়ানৰ দৰে তীৰ্থযাত্ৰীসকলে চীনা পৰা ভাৰতলৈ আহিছিল বুদ্ধৰ লিখিত গ্ৰন্থৰ সন্ধানত। সেৱা তেওঁলোকে নিজৰ দেশলৈ কঢ়িয়াই লৈ যায়, যাঁত তেওঁলোকৰ পণ্ডিতৰ দ্বাৰা পুথিসমূহ অনুবাদ কৰায়। ভাৰতীয় বৌদ্ধ শিক্ষকসমূহেও বহু দূৰলৈ ভ্ৰমণ কৰিছিল, গ্ৰন্থসমূহ কঢ়িয়াই লৈ ফুৰিছিল বুদ্ধৰ শিক্ষাক প্ৰসাৰিত কৰাৰ বাবে।

এছিয়াৰ বিভিন্ন বৌদ্ধ ধৰ্মৰ মঠ-মন্দিৰসমূহত বুদ্ধৰ লিখনসমূহৰ পাণ্ডুলিপি বহু শতিকালৈ সংৰক্ষণ কৰা হৈছিল। আধুনিক অনুবাদসমূহ পালি, সংস্কৃত, চীনা আৰু তিব্বতীয় লিখনীৰ পৰা কৰা হৈছিল।

ৰজা আশোকে বুদ্ধৰ ধৰ্মসাৰশেখৰ কিছু আংশ প্ৰতিখন গুৰুত্বপূৰ্ণ নগৰলৈ বিতৰণ কৰিছিল আৰু তাৰ ওপৰত স্তূপ নিৰ্মাণৰ আদেশ দিছিল। তলত উল্লেখিত কোনখন গ্ৰন্থত তাৰ সন্নিবেশ পোৱা যায় :

- (1) মহাবংশ
- (2) দিন্য পিটক
- (3) অশোকবননা
- (4) অভিবশ্ম পিটক

Options :

- 112807119357 : 1
- 112807119358 : 2
- 112807119359 : 3
- 112807119360 : 4

Question Number : 245 Question Id : 21280719840 Question Type : MCQ Option Shuffling : No Is Question Mandatory : No Calculator : None

Response Time : N.A Think Time : N.A Minimum Instruction Time : 0

Correct Marks : 5 Wrong Marks : 1

Question Key Details :

Key	Value
Comprehension	Compl

### অনুচ্ছেদটি পড়ো ও প্রশ্নের উত্তর দাও :

বুদ্ধ (ও অন্য গুরুরা) মুখে মুখে পড়াতেন— আলোচনা ও বিতর্কের মাধ্যমে। পুরুষ ও নারীর (সম্ভবতঃ শিশুরাও) এই সভাগুলিতে উপস্থিত থাকত এবং বা তারা জনতা সে বিষয়ে আলোচনা করতো। বুদ্ধের কোন ভাষণ তাঁর জীবদ্দশাকালীন লিখিত হয়নি। তাঁর মৃত্যুর পর (পঞ্চম থেকে চতুর্থ খ্রীষ্ট পূর্বাব্দে) “বহুস্ক” বা প্রবীণ সন্ন্যাসী, যারা তাঁর শিষ্য ছিলেন ভেঙ্গাঙ্গি (পালিতে বৈশাঙ্গী-বর্তমান বিহারে) তে তাঁরা পরিষদ গঠন করে। বুদ্ধের বাণীগুলি সংকলিত করেন। এই সংকলনগুলি ত্রিপিটক নামে পরিচিত— আক্ষরিকভাবে তিনটি পৃথক পত্র যেখানে নানান ধরণের বিষয় রাখা হত। প্রথমে তারা মৌখিক আলোচনা করতো ও তারপর লিখতো এবং দৈর্ঘ্য ও বিষয়বস্তু অনুযায়ী সেগুলি শ্রেণিবিন্যস্ত করা হতো।

দিনয় পিটিকে সংঘ বা মঠে যোগদানকারী শিষ্য-শিষ্যামণ্ডলীর জন্য নিয়মকানুন সংকলিত ছিল। বুদ্ধের বাণীসমূহ সূত্র পিটিকে ও অভিধম্ম পিটিকে দার্শনিক বিবরণসমূহ আলোচিত হয়। প্রত্যেক পিটক অল্প বেশ করেকটি বিষয় নিয়ে গঠিত হয়। পরবর্তী সময়ে পিটকের বিষয়বস্তুগুলির উপর ধারাবাহিক কাব্য বৌদ্ধ পণ্ডিতদের দ্বারা লিখিত হয়েছিল।

বুদ্ধ নতুন নতুন অঞ্চলে পরিভ্রমণ করেছিলেন, যেমন শ্রীলঙ্কা। সেই মতো বৌদ্ধধর্মের আঞ্চলিক ইতিহাস দীপবংশ (আক্ষরিক অর্থে দীপভূমির ইতিবৃত্ত) ও মহাবংশ (মহাইতিবৃত্ত) লিখিত হয়। এইসকল রচনাগুলির অনেকগুলিতে বুদ্ধের জীবনী বিধৃত আছে। আদি বৌদ্ধ শাস্ত্রের কিছু পালি ভাষায় আর পরবর্তীতে বৌদ্ধশাস্ত্রগুলি সংস্কৃত ভাষায় লিখিত হয়।

বৌদ্ধ ধর্ম পূর্ব এশিয়ায় বিস্তার লাভ করলে পর্যটকরা যেমন— ফা-হিয়েন ও জুয়াং জ্যাং চীন থেকে ভারতে এসেছিলেন বৌদ্ধ শাস্ত্রগুলি অনুসন্ধানের জন্য। বহু বৌদ্ধ ধর্ম বিষয়ক তথ্য ও শাস্ত্র-সংগ্রহ করে তারা স্বদেশে নিয়ে যায় যেগুলি বিশেষজ্ঞদের দ্বারা অনূদিত হয়েছিল। ভারতীয় বৌদ্ধ পণ্ডিতরা বহু দূরবর্তী জায়গায় ভ্রমণ করেছিলেন। সঙ্গে তারা বৌদ্ধ ধর্ম সংক্রান্ত গ্রন্থ বহন করতেন, বৌদ্ধ ধর্মের বাণী ছড়িয়ে দেওয়ার জন্য।

বৌদ্ধ সাহিত্যগুলি বহু শতাব্দী যাবৎ পাল্লিলিপি আকারে এশিয়ার বিভিন্ন অঞ্চলের মঠগুলিতে রক্ষিত হয়েছিল। আধুনিক অনুবাদগুলি পালি, সংস্কৃত, চীনা ও তিব্বতী বৌদ্ধ শাস্ত্র-সাহিত্যগুলি থেকে প্রস্তুত করা হয়েছে।

অশোক বুদ্ধের স্মারক বস্তুগুলি প্রত্যেক গুরুত্বপূর্ণ শহরে প্রেরণ করেন ও সেগুলির উপর স্তম্ভিত করে স্থপ নির্মাণের আদেশ দেন। নিচের কোন শাস্ত্রে এই আলোচনা বিধৃত আছে ?

- (1) মহাবংশ
- (2) দিনয় পিটক
- (3) অশোকবদান
- (4) অভিধর্ম পিটক

Options :

- 212807119387 1
- 212807119358 2
- 212807119359 3
- 212807119360 4

Question Number : 245 Question Id : 21280719540 Question Type : MCQ Option Shuffling : No Is Question Mandatory : No Calculator : None  
Response Time : N.A Think Time : N.A Minimum Instruction Time : 0

Correct Marks : 5 Wrong Marks : 1

Question Key Details :

Key	Value
Comprehension	Compl

નીચેનો ફકરોવાંચી પ્રશ્નોના ઉત્તર આપો :

બુદ્ધ (અને અન્ય શિક્ષકો) ચર્ચાઓ અને વિચારણાઓ દ્વારા મૌખિક રીતે ઉપદેશ આપતા હતા. સ્ત્રીઓ અને પુરૂષો (કદાચ બાળકો પણ) આ પ્રવચનોમાં હાજરી આપતા હતા અને તેઓએ જે સાંભળ્યું હતું તેની ચર્ચા કરતા હતા. બુદ્ધના જીવનકાળ દરમિયાન તેમણે એક પણ ભાષણ લખવામાં આવ્યું ન હતું. તેમના મૃત્યુ (સૌથી-પાંચમી સદી BCE) પછી તેમના ઉપદેશોનું વેશાલીમાં (પાલીમાં વેશાલી જે હાલમાં બિહારમાં આવેલું છે) "વડીલો" કે વરીષ્ઠ સાદુઓની પરિષદમાં સંકલન કરવામાં આપ્યું હતું. આ સંકલનો ત્રીપીટક તરીકે ળાણીતા છે જેનો શાબ્દિક અર્થ-વિવિધ પ્રકારના ગ્રંથો રાખવા માટેની ત્રણ ટોપલીઓ થાય છે. તેઓને પ્રથમ મૌખિક રીતે પ્રસારિત કરવામાં આવ્યા હતાં અને બાદમાં લખીને તેની લંબાઈ અને વિષયવસ્તુ પ્રમાણે વર્ગીકૃત કરવામાં આવ્યા હતાં.

વિનય પીટકમાં સંઘ અથવા સાદુઓના ક્રમમાં જોડાવ માટેના નિતીનિયમોનો સમાવેશ થતો હતો. સુત્તપીટક અને અભિધમ્મ પિટક તાત્કીક બાબતો સાથે સંબંધિત છે. દરેક પીટકમાં સંખ્યાવંધ સ્વતંત્ર ગ્રંથોનો સમાવેશ થતો હતો. પાછળથી બુદ્ધીસ્ત વિદ્યાનો દ્વારા આ લખાણો ઉપરની ટીકાઓ લખવામાં આવી હતી.

જ્યારે બુદ્ધ ધર્મ ત્રીલંકા જેવા નવા પ્રદેશોમાં પહોંચે છે, ત્યારે બીજા ગ્રંથો જેવાકે દીપવંશ (શાબ્દિક અર્થ-ટાપુનો) અને મહાવંશ (મહાન) લખવામાં આવ્યા હતાં, જેમાં બૌદ્ધ ધર્મનો પ્રાદેશિક ઇતિહાસ સમાવાયેલો છે, તેમાંથી કેટલાક જૂના લખાણો પાલીમાં લખાયા છે, જ્યારે પછીની રચનાઓ સંસ્કૃતમાં લખવામાં આવી છે.

જ્યારે બૌદ્ધ ધર્મ પૂર્વ એશિયામાં ફેલાયો, ડા હિયાન અને હ્યુ-એન-ત્સાંગ જેવા યાત્રાળુઓ આ લખાણોની શોધમાં છેક ચીનથી ભારત સુધી આવ્યા, અને આ લખાણોને તેઓ પોતાના દેશમાં પાછા લઈ ગયા. જ્યાં વિદ્વાનો દ્વારા તેનું ભાષાંતર કરવામાં આવ્યું. ભારતીય બુદ્ધીસ્ત શિક્ષકો પણ બુદ્ધના ઉપદેશોના પ્રસાર માટે દૂરના સ્થળોએ પ્રવાસ કરતો હતાં, આ લખાણ એશિયાના વિવિધ ભાગોમાં આવેલા મઠોમાં સદીઓ સુધી હસ્તપ્રતોમાં સમવાયેલું હતું.

આધુનિક અનુવાદો પાલી, સંસ્કૃત, ચાઈનીઝ અને ત્રીબેટીયન લખાણોમાંથી તૈયાર કરવામાં આવ્યા છે.

અશોકે બુદ્ધના જુદા-જુદા અવશોષોને દરેક મહત્વના નગરોમાં વહેચ્યાં અને તેની ઉપર સ્તુપ બાંધવાનો આદેશ આવ્યો હતો. નીચેનામાંથી કયા લખાણમાં આ વિગત સમાવિષ્ટ છે ?

- (1) મહાવંશ
- (2) બીનય પીટક
- (3) અશોકવદન
- (4) અભિધમ્મ પીટક

Options :

112807119357 1

212807119358 2

312807119359 3

412807119360 4

Question Number : 245 Question Id : 21280729840 Question Type : MCQ Option Shuffling : No Is Question Mandatory : No Calculator : None

Response Time : N/A Think Time : N/A Minimum Instruction Time : 0

Correct Marks : 5 Wrong Marks : 1

Question Key Details :

Key	Value
Composition	Compl

ವಾಕ್ಯ ಪುಂಜವನ್ನು ಓದಿ ಮತ್ತು ಪ್ರಶ್ನೆಗಳಿಗೆ ಉತ್ತರಿಸಿ :

ಬುದ್ಧ (ಮತ್ತು ಇತರ ಶಿಕ್ಷಕರು) ಸಮಾಲೋಚನೆಗಳು ಮತ್ತು ಚರ್ಚೆಗಳ ಮೂಲಕ ಮೌಖಿಕವಾಗಿ ಕಲಿಸಿದರು. ಪುರುಷರು ಮತ್ತು ಮಹಿಳೆಯರು (ಮಕ್ಕಳು ಸಹ) ಈ ಪ್ರವಚನಗಳಿಗೆ ಹಾಜರಾಗಿ ಅವರು ಏನು ಕೇಳಿಕೊಂಡರೋ ಅದನ್ನು ಚರ್ಚಿಸಿದರು. ಬುದ್ಧನ ಯಾವುದೇ ಭೋಧನೆಗಳನ್ನು ಅವನ ಜೀವಿತ ಅವಧಿಯಲ್ಲಿ ಬರೆಯಲಿಲ್ಲ ಅವನ ಮೃತ್ಯುವಿನ ನಂತರದಲ್ಲಿ (ಸುಮಾರು BCE ಐದನೇ-ಆರನೇ ಶತಮಾನ) ಅವನ ಭೋಧನೆಗಳನ್ನು ಅವನ ಶಿಷ್ಯರು 'ಹಿರಿಯರ' ಸಭೆ ಅಥವಾ ಹಿರಿಯ ದಿಬ್ಬಿಗಳ ಸಮ್ಮುಖದಲ್ಲಿ ವೈಶಾಲಿಯಲ್ಲಿ (ಇವತ್ತಿನ ಬಹಾರದಲ್ಲಿ ಪಾಲಿ) ಸಂಗ್ರಹಿಸಲಾಯಿತು. ಈ ಸಂಗ್ರಹಗಳನ್ನು 'ತ್ರಿಪೀಟಕಗಳು' ಎಂದು ಕರೆಯುತ್ತಾರೆ. ವಾಸ್ತವವಾಗಿ ವಿವಿಧ ರೀತಿಯ ಬರಹಗಳನ್ನು ಹಿಡಿದಿರುವ ಮೂರು ಬುಟ್ಟಿಗಳು. ಅವುಗಳನ್ನು ಮೊದಲು ಮೌಖಿಕವಾಗಿ ಪ್ರಸಾರ ಮಾಡಲಾಯಿತು ಮತ್ತು ನಂತರ ಬರೆದ ಮತ್ತು ಅವಧಿ ಮತ್ತು ವಿಷಯ ವಸ್ತುಗಳ ಪ್ರಕಾರ ವಿಂಗಡಿಸಲಾಯಿತು.

ವಿನಯ ಪೀಟಕವು ಸಂಘ ಅಥವಾ ಮಠಗಳಿಗೆ ಸೇರುವವರಿಗೆ ನಿಯಮಗಳು ಮತ್ತು ನಿರ್ಬಂಧಗಳನ್ನು ಒಳಗೊಂಡಿದೆ ; ಬುದ್ಧನ ಭೋಧನೆಗಳನ್ನು ಸುಟ್ಟ ಪೀಟಕದಲ್ಲಿ ಸೇರಿಸಲಾಗಿದೆ ಮತ್ತು ಅಭಿಧಮ್ನ ಪೀಟಕವು ಅಧ್ಯಾತ್ಮ ವಿಷಯಗಳ ಕುರಿತಾಗಿದೆ. ಪತಿಯೊಂದು ಪೀಟಕವು ಬಹುಸಂಖ್ಯೆಯ ವೈಯಕ್ತಿಕ ಬರಹಗಳನ್ನೊಳಗೊಂಡಿತ್ತು. ನಂತರ ಬೌದ್ಧ ವಿಶ್ವಾಸರಿಂದ ಈ ಬರಹಗಳ ಮೇಲೆ ಧಾಷ್ಯಗಳನ್ನು ಬರೆಯಲಾಯಿತು.

ಬೌದ್ಧ ಧರ್ಮವು ಪೋಪ ಪ್ರವೇಶಗಳಾದ ಶ್ರೀಲಂಕಾಕ್ಕೆ ಹರಡಿತು. ಇತರ ಬರಹಗಳಾದ ದೀಪವಂತ (ವಾಸ್ತವವಾಗಿ ದ್ವಿಪಗಳ ಚರಿತ್ರೆ) ಮತ್ತು ಮಹಾವಂತ (ಅದ್ಭುತ ಚರಿತ್ರೆ) ಬುದ್ಧರ ಪ್ರದೇಶಕ ಸತಿಹಾಸಗಳನ್ನೊಳಗೊಂಡು ಬರೆಯಲ್ಪಟ್ಟಿತು. ಇವುಗಳ ಹಲವು ಬರಹಗಳು ಬುದ್ಧನ ಆತ್ಮ ಚರಿತ್ರೆಯನ್ನೊಳಗೊಂಡಿದೆ. ಕೆಲವು ಹಳೆಯ ಬರಹಗಳು ಪಾಲಿಯಲ್ಲಿದೆ. ಆದರೆ ನಂತರದ ಸಂಯೋಜನೆಗಳು ಸಂಸ್ಕೃತದಲ್ಲಿದೆ.)

ಯಾವಾಗ ಬೌದ್ಧ ಧರ್ಮವು ಪೂರ್ವ ಏಷ್ಯಾಕ್ಕೆ ಪ್ರಸಾರವಾಯಿತೋ, ಆಗ ಯಾತ್ರಾರ್ಥಿಗಳಾದ ಫಾಕ್ಸಿಯಾನ್ ಮತ್ತು ಹ್ಯೂಯೆನ್ ತ್ಸಾಂಗ್ ಚೀನಾದಿಂದ ಭಾರತಕ್ಕೆ ಬರಹಗಳ ಶೋಧನೆಗೆ ಪ್ರವಾಸ ಮಾಡಿದರು. ಇವುಗಳನ್ನು ತಮ್ಮ ದೇಶಕ್ಕೆ ತೆಗೆದು ಕೊಂಡು ಹೋಗಿ, ಅವನ್ನು ಅಲ್ಲಿ ವಿಶ್ವಾಂಸರುಗಳಿಂದ ಭಾಷಾಂತರ ಗೊಳಿಸಿದರು. ಭಾರತೀಯ ಬೌದ್ಧ ಶಿಕ್ಷಕರು ಸಹ ಬುದ್ಧನ ಭೋಧನೆಗಳನ್ನು ಪ್ರಸಾರ ಮಾಡಲು ಬರವಣಿಗೆಗಳನ್ನು ಹೊತ್ತು ದೂರದ ಪ್ರದೇಶಗಳಿಗೆ ಪ್ರಯಾಣ ಬೆಳೆಸಿದರು.

ಬೌದ್ಧರ ಬರಹಗಳನ್ನು ಏಷ್ಯಾದ ವಿವಿಧ ಭಾಗಗಳಲ್ಲಿ ಹಸ್ತಕೃತಿಯಲ್ಲಿ ಹಲವು ಶತಮಾನದ ವರೆಗೆ ಸಂರಕ್ಷಿಸಲಾಯಿತು. ಆಧುನಿಕ ಭಾಷಾಂತರವನ್ನು ಪಾಲಿ, ಸಂಸ್ಕೃತ, ಚೀನಿ ಮತ್ತು ಟಿಬೆಟಿಯರ ಬರಹಗಳಿಂದ ತಯಾರಿಸಲಾಗಿದೆ.

ಆಶೋಕನು ಬುದ್ಧನ ಸ್ಮಾರಕ ವಸ್ತುಗಳ ಸ್ವಲ್ಪ ಭಾಗವನ್ನು ಎಲ್ಲಾ ಪ್ರಮುಖ ಪಟ್ಟಣಗಳಿಗೆ ಹಂಚಿಕೆಮಾಡಿ ಮತ್ತು ಅವುಗಳ ಮೇಲೆ 'ಸ್ತೂಪಗಳನ್ನು ನಿರ್ಮಿಸಲು ಅಜ್ಜಿ ಮಾಡಿದನು. ಈ ವಿವರಣೆಯಿರುವುದು ಕೆಳಗಿನ ಯಾವ ಬರಹದಲ್ಲಿ ?

- (1) ಮಹಾವಂತ
- (2) ವಿನಯ ಪೀಟಕ
- (3) ಆಶೋಕವಾದನ
- (4) ಅಭಿಧಮ್ನ ಪೀಟಕ

Options :

212807119357 1

212807119358 2

212807119359 3

212807119360 4

Question Number : 245 Question Id : 21280719940 Question Type : MCQ Option Shuffling : No Is Question Mandatory : No Calculator : None

Response Time : N.A Think Time : N.A Minimum Instruction Time : 0

Correct Marks : 5 Wrong Marks : 1

Question Key Details :

Key	Value
Comprehension	Comp1

## उत्तरा वाचा आणि प्रश्न चे उत्तर लिहा :

बुद्ध ( आणि इतर शिक्षक) मौखिकरित्या चर्चा व वादविवादांद्वारे उपदेश करत. स्त्रिया व पुरुष ( कदाचित लहान मुलेही ) या चर्चेस उपस्थित रहात व आपण काय ऐकले यावर चर्चा करत. बुद्धांच्या जीवनकालात त्यांनी केलेले एकही उपदेश पर भाषण लिहून ठेवले गेले नाही. त्यांच्या मृत्यूनंतर ( इ.स. पू पाचवे-चौथे शतक ) त्यांच्या शिष्यांनी त्यांच्या उपदेशांचे संग्रह करून ठेवले. हे काम “ श्रेष्ठींची समिती ” किंवा ज्येष्ठ भिक्वुनी वेसाली ( वैशाली चे पाली भाषेतील रूप ) ( वैशाली आजच्या विहारमधे स्थित आहे ) येथे केले. या संग्रहांना तिपिटक म्हणजे शब्दशः विविध ग्रंथ असणारे तीन पेटारे असे म्हटले जाऊ लागले. ते प्रथम मौखिकरित्या व नंतर लिखितरित्या संक्रमित झाले. त्यांचे लांबीनुसार व विषय वस्तुनुसार वर्गीकरण करण्यात आले.

विनय पिटकामध्ये, संघात प्रवेश करून भिक्खू वनाच्यासाठीचे नियम लिहिले आहेत. बुद्धांचा उपदेश सूतापिटकात तर तत्वज्ञानविषयक बाबींचा अभिधम्म पिटकात समावेश आहे. प्रत्येक पिटकात विविध स्वतंत्र ग्रंथ आहेत. नंतर त्यावर बौद्ध विद्वानांनी टीका लिहिली.

जेव्हा बौद्ध धर्माचा बाहेर उदाहरणार्थ श्रीलंकेत प्रसार झाला, तेव्हा दीपवंश ( वेदांची माहिती ) व महावंश ( थोर ग्रंथ ) लिहिले गेले, ज्यात बौद्ध धर्माच्या प्रांतिक इतिहासाचा समावेश आहे. यापैकी अनेक ग्रंथात बुद्धांच्या चरित्राचा समावेश आहे. काही अति प्राचीन ग्रंथ पाली भाषेत आहेत तर त्यानंतरच्या काळातील रचना संस्कृतमध्ये आहेत.

पूर्व आशियामध्ये बौद्ध धर्माचा प्रसार झाल्यानंतर फाहियान व जिआनझांग सारखे प्रवासी चिनमधून भारतात ग्रंथांच्या शोधात आले. हे ग्रंथ ते मायदेशी परत घेऊन गेले, जिथे विद्वानांनी त्यांचे भाषांतर केले. भारतीय बौद्ध उपदेशकांनी देखिल सुदूरच्या प्रदेशात बुद्धांच्या उपदेशाचा प्रसार करण्यासाठी ग्रंथ घेऊन प्रवास केला.

आशिया खंडाच्या विविध भागात बौद्ध संप्रदायांमध्ये बौद्ध ग्रंथांच्या हस्तलिखितांचे जतन केले गेले. पाली, संस्कृत, चिनी व तिबेटी ग्रंथांवरून आधुनिक भाषांतरे तयार केलेली आहेत.

अशोकाने बुद्धांच्या अस्थींचे अवशेष प्रत्येक महत्त्वाच्या शहरात पाठवले व त्यावर स्तूप बांधण्याची आज्ञा केली. हा तपशील कोणत्या ग्रंथात आढळतो ?

- (1) महावंश
- (2) विनय पिटक
- (3) अशोकावदान
- (4) अभिधम्म पिटक

Options :

212807119357 1

212807119358 2

212807119359 3

212807119360 4

Question Number : 245 Question Id : 21280719340 Question Type : MCQ Option Shuffling : No Is Question Mandatory : No Calculator : None

Response Time : N.A Think Time : N.A Minimum Instruction Time : 0

Correct Marks : 5 Wrong Marks : 1

Question Key Details :

Key	Value
Comprehension	Compl

താഴെ തന്നിരിക്കുന്ന ഗദ്യഭാഗം വായിച്ച് ഉത്തരം എഴുതുക.

ബുദ്ധനും അതുപോലെ മറ്റ് അധ്യാപകരുചർച്ചകളിലൂടെയും സംവാദങ്ങളിലൂടെയും പഠിപ്പിച്ചു. രൂപപ്പെട്ട കൃതികൾ ഉൾപ്പെടെ ആണ്ണം പെണ്ണും കേട്ടതൊക്കെ ഉൾക്കൊണ്ടു. ബുദ്ധന്റെ ജീവിത കാലത്ത് അദ്ദേഹത്തിന്റെ ഒരു പ്രഭാഷണവും രേഖപ്പെടുത്തപ്പെട്ടിരുന്നില്ല. അദ്ദേഹത്തിന്റെ മരണശേഷം (ബി. സി. 54) അദ്ദേഹത്തെ പിന്തുടരുന്ന ഒരു കൂട്ടം മുതിർന്നവർ ഇതിനെ സ്മരണയ്ക്കായി എഴുതി സൂക്ഷിച്ചത് പാലിയീലാണ്. (പാലിയും വൈശാലിയും ഇന്നത്തെ ബിഹാറിലാണ് )

ഈ ബുക്കുകളെ അറിയപ്പെട്ടത് ത്രിപിറ്റക എന്നാണ്. സാഹിത്യപരമായി മൂന്ന് ബാസ്കറ്റുകളിലാണ് ബുക്കുകൾ സൂക്ഷിച്ചത്. ആദ്യം വാമൊഴിയായി പ്രചരിച്ച ഈ ബുക്കുകൾ പിന്നീട് എഴുതപ്പെടുകയും വിഷയത്തിന്റെയും വലുപ്പത്തിന്റെയും അടിസ്ഥാനത്തിൽ വേർതിരിക്കപ്പെടുകയും ചെയ്തു.

വിനയ പീഠക പ്രധാനമായി പ്രതിപാദിച്ചത് സന്യാസ സംഘത്തിൽ ചേരുന്നവർക്കായുള്ള നിർദ്ദേശങ്ങളും നിയമങ്ങളും ആയിരുന്നു. ബുദ്ധന്റെ മറ്റ് രണ്ട് കൃതികളായ വിനയപീഠികയും അഭിതമപീഠികയും തത്വശാസ്ത്രപരമായിരുന്നു. ഓരോ പീഠികയും കുറച്ചു ബുക്കുകളുടെ കൂട്ടമായിരുന്നു. പീഠികകളെന്ന് ബുദ്ധ പണ്ഡിതന്മാർ ഇതിന് ആഖ്യാനങ്ങൾ എഴുതി. ശ്രീലങ്ക പോലുള്ള പുതിയ സ്ഥലങ്ങളിൽ സന്ദർശിച്ച ബുദ്ധന കാലഗണ തയ്യാറാക്കാൻ സഹായിക്കുന്നു. ഭീപവാംശ (ദ്രീപിന്റെ കാലഗണന) മഹാവംശ (മഹത്തായ കാലഗണന) എന്നിവ ബുദ്ധചരിത്രത്തോടൊപ്പം എഴുതി. ചിലതൊക്കെ പാലിയീലാണോ എഴുതപ്പെട്ടതെങ്കിലും പിന്നീട് സംസ്കൃതത്തിലേക്ക് തർജ്ജമ നടത്തി.

ബുദ്ധീസം കീഴക്കൻ ഏഷ്യൻ രാജ്യങ്ങളിലേക്ക് വ്യാപിച്ചപ്പോൾ ചൈനയിൽ നിന്ന് ഫാഹിയൻ, ഹുയാൻ സാങ് എന്നിവർ ഗ്രന്ഥങ്ങൾ അന്വേഷിച്ച് ഇന്ത്യയിലെത്തി. ഇത് അവർ അവരുടെ രാജ്യത്തേക്ക് കൊണ്ടുപോയി. അവർ പണ്ഡിതന്മാരായി തർജ്ജമ ചെയ്തു. ഇന്ത്യയിൽ നിന്നുള്ള ബുദ്ധ സന്യാസിമാരും ലോകത്തിന്റെ പലവശത്തേക്ക് യാത്രചെയ്ത് ബുദ്ധന്റെ ആശയങ്ങൾ ജനങ്ങളിലേക്ക് എത്തിച്ചു.

ബുദ്ധമത ഗ്രന്ഥങ്ങളുടെ കൈയെഴുത്തു പ്രതികൾ ഏഷ്യയിലെ വിവിധ ഭാഗങ്ങളിൽ സൂക്ഷിച്ചിരിക്കുന്നു. പുതിയ വിവർത്തനങ്ങൾ പാലിയീലും സംസ്കൃതത്തിലും ടിബറ്റൻ ഭാഷയിലും ചൈനീസിലും ഉണ്ടായി.

ബുദ്ധന്റെ ലിഖിതങ്ങൾ നൽകി നിരവധി നഗരങ്ങളിൽ സത്യപങ്ങൾ നിർമ്മിക്കാൻ അശോകൻ നിർദ്ദേശം നൽകിയിരിക്കുന്നതിന്റെ വിവരങ്ങൾ രേഖപ്പെടുത്തിയ ഗ്രന്ഥം :

- (1) മഹാവംശ
- (2) വിനയപീഠിക
- (3) അശോകവർണ
- (4) അഭിതമപീഠിക

Options :  
 112807119357 1  
 212807119358 2  
 312807119359 3  
 412807119360 4

Key	Value
Comprehension	Comp1

ଅନୁଛେଦଟିକୁ ପଢ଼ନ୍ତୁ ଏବଂ ନିମ୍ନଲିଖିତ ପ୍ରଶ୍ନର ଉତ୍ତର ଦିଅନ୍ତୁ ।

ବୁଦ୍ଧ (ଏବଂ ଆ ଗୁରୁମାନେ) ଗୌରବ ରୂପରେ ଶିକ୍ଷା ଦେଉଥିଲେ - ଆନୁଷ୍ଠାନିକ ଆନ୍ଧୋତନ୍ତ୍ର ମାଧ୍ୟମରେ । ସା ଏବଂ ପୁରୁଷ (ଏମିତିକି ପିତାମାନେ ମଧ୍ୟ) ତାଙ୍କର ବହୁତା ଯୋଗଦେଉଥିଲେ ଏବଂ ଯାହା ଶୁଣୁଥିଲେ ତାହା ଆନ୍ଧୋତନ୍ତ୍ର ଇଚ୍ଛୁଥିଲେ । ବୁଦ୍ଧଙ୍କର ଜୀବନ ସମୟରେ ତାଙ୍କର ଚଳିତାସି ନଥିବା ଲିପିବଦ୍ଧ ହୋଇନଥିଲା । ତାଙ୍କର ମୃତ୍ୟୁ ପରେ, ତାଙ୍କର ଶିଷ୍ୟମାନଙ୍କର ଦ୍ଵାରା ତାଙ୍କର ଶିକ୍ଷାକୁ ଲିପିବଦ୍ଧ କରାଯାଇଥିଲା, ଯାହାକି ଯେତେବେଳେ ବ୍ୟକ୍ତି ଏବଂ ଚୟୋଲୋଷ (ମଦ୍ୟ) ବିନ୍ୟାସନଙ୍କର ଏକ ବଡ଼ ଯାହାକି ବୈଶାକୀ (ପାର୍ଶ୍ଵ ବର୍ତ୍ତମାନର ଦିଗର) । ଏହି ସଙ୍କଳିତ ଚର୍ଚ୍ଚାକୁ ଚିପିବଦ୍ଧ କୁଳାୟାଗୁଣା । - ସ୍ଵତନ୍ତ୍ର ଚିନ୍ତାଟି ସୂଚି, ତିନି ପ୍ରକାରର ଅନୁଛେଦ ଉତ୍ପତ୍ତୀ ପାଇଁ ।

ଯେଉଁମାନେ ସଂସ୍ଠା ଯୋଗଦେଉଥିଲେ ସେମାନଙ୍କ ପାଇଁ ବିନାୟ ପିତୃତ୍ଵରେ ନିୟମାବଳୀ ଲିପିବଦ୍ଧ ଥିଲା; ବୁଦ୍ଧଙ୍କର ଶିକ୍ଷା ସ୍ଵତ୍ଵ ପିତୃତ୍ଵରେ ଲିପିବଦ୍ଧ ହୋଇଥିଲା ଏବଂ ଅଭିଧାନ ପିତୃତ୍ଵରେ ପିତୃତ୍ଵାବୋଧିକାଳ ନିଶ୍ଚୟକରୁ ଥିଲା । ପ୍ରତି ପିତୃତ୍ଵରେ ଏକାଧିକ ଅନୁଛେଦ ରହିଥିଲା । ପରବର୍ତ୍ତୀ ସମୟରେ ବୌଦ୍ଧ ଗୁରୁମାନଙ୍କର ଭାଷଣ ଲିପିବଦ୍ଧ ଥିଲା ।

ଶ୍ରୀରାଜା ଜାତି ନୂଆ ଅଞ୍ଚଳକୁ ବୌଦ୍ଧ ଧର୍ମ ବ୍ୟାପିତା ପରେ ବିଭିନ୍ନ ଅନୁଛେଦ ଯଥା - ପିତୃତ୍ଵ (୯ ଛୋଟିଜାଲ୍ ଅଫ୍ ଚ ଆକାଶ୍ୟାଣ) କେଶାଯାଇଥିଲା ଯେଉଁଥିରେ କି ବୌଦ୍ଧ ଧର୍ମର ଆନ୍ତର୍ଜାଳ ଉଦ୍ଦିଗାସ କେଶାଯାଇଥିଲା । ପ୍ରାଚୀନ ଅନୁଛେଦଗୁଡ଼ିକ ପାଲିଭାଷାରେ, ଏବଂ ପରବର୍ତ୍ତୀ ଅନୁଛେଦଗୁଡ଼ିକ ସଂସ୍କୃତ ଭାଷାରେ ଲିପିବଦ୍ଧ ହୋଇଥିଲା ।

ବୌଦ୍ଧ ଧର୍ମ ପୂର୍ବ ଏସିଆକୁ ପ୍ରସାର ଦେବାବେଳେ, ପାହିଆନ ହୁଏନସାଂ ପୁସ୍ତକ ସଂଗ୍ରହରେ ବ୍ୟାପକ ଭାବେ ଆସିଲେ । ସେମାନେ ନିଜ ଦେଶକୁ ଗଲାବେଳେ ବିଭିନ୍ନ ଦ୍ଵାରା ଅନୁବାଦ ନେଇଗଲେ । ଭାରତୀୟ ବୌଦ୍ଧ ଗୁରୁ ମଧ୍ୟ ଆନେକ ଦୂର ପଶ୍ଚିମାଞ୍ଚଳ କଲେ, ସାଥିରେ ପୁସ୍ତକ ନେଇ ବୁଦ୍ଧ ଶିକ୍ଷାକୁ ପ୍ରସାର କରିବା ଉଦ୍ଦେଶ୍ୟରେ ।

ଏସିଆର ବିଭିନ୍ନ ଦେଶରେ ବୌଦ୍ଧ ପୁସ୍ତକଗୁଡ଼ିକୁ ପାଣ୍ଡୁଲିପି ଭାବେ ବୌଦ୍ଧପିଠରେ ରଖାଯାଇଛି । ଆଧୁନିକ ଅନୁବାଦ ସବୁ ପାଲି, ଚାଳିନିକ, ସଂସ୍କୃତ ଏବଂ ଚିବ୍ଦିୟ ପାଠ୍ୟ ପୁସ୍ତକକୁ ପୁସ୍ତକ ଖୋଲିଛି ।

ସମ୍ପ୍ରାଚ ଅକ୍ଷୋକ ବୁଦ୍ଧଙ୍କର ପୁତ୍ରପିତୃ ବିଭିନ୍ନ ଗୁରୁନୁପୁଣ୍ଡ ସହରଗୁଡ଼ିକୁ କଠିକରୀ ପଠାଇଥିଲେ ଏବଂ ତାହା କମରେ ସ୍ଵପ ଗଠନ ପାଇଁ ଆଦେଶ ଜାରି କରିଥିଲେ । ନିମ୍ନଲିଖିତ ମଧ୍ୟରୁ କେଉଁ ଅନୁଛେଦରେ ଏହା ଲିପିବଦ୍ଧ ଅଛି ?

- (1) ମହାଜଂଶ
- (2) ନିକୟ ପିତୃତ୍ଵ
- (3) ଅକ୍ଷୋକବନ୍ଦନା
- (4) ଅଭିଧାନ ପିତୃତ୍ଵ

Options :

- 212807119357 1  
 212807119358 2  
 212807119359 3  
 212807119360 4

Question Number : 245 Question Id : 21280719540 Question Type : MCQ Option Shuffling : No Is Question Mandatory : No Calculator : None

Response Time : N.A Think Time : N.A Minimum Instruction Time : 0

Correct Marks : 5 Wrong Marks : 1

Question Key Details :

Key	Value
Comprehension	Comp1

ਪੈਰੋ ਨੂੰ ਪੜ੍ਹੋ ਅਤੇ ਨਿਮਨਲਿਖਤ ਪ੍ਰਸ਼ਨ ਦੇ ਉਤਰ ਦਿਓ।

ਬੁੱਧ (ਅਤੇ ਹੋਰ ਗੁਰੂਆਂ) ਨੇ ਮੌਖਿਕ ਰੂਪ ਵਿਚ ਚਰਚਾ ਅਤੇ ਬਹਿਸ ਰਾਹੀਂ ਸਿਖਿਆਵਾਂ ਦਿੱਤੀਆਂ। ਆਦਮੀ, ਔਰਤਾਂ (ਸਾਇਦ ਬੱਚੇ ਵੀ) ਇਨ੍ਹਾਂ ਪ੍ਰਵਚਨਾਂ ਨੂੰ ਸੁਣਦੇ ਅਤੇ ਚਰਚਾ ਕਰਦੇ। ਬੁੱਧ ਦੇ ਜੀਵਨ-ਕਾਲ ਦੌਰਾਨ ਬੁੱਧ ਦਾ ਕੋਈ ਵੀ ਪ੍ਰਵਚਨ ਲਿਖਤ ਵਿਚ ਨਹੀਂ ਆਇਆ। ਬੁੱਧ ਦੀ ਮੌਤ (ਪੰਜਵੀਂ-ਚੌਥੀ ਸਦੀ ਈ.ਪੂ.) ਤੋਂ ਬਾਅਦ ਉਸਦੇ ਸਭ ਤੋਂ ਵੱਡੇ ਚੇਲਿਆਂ ਨੇ ਵੈਸ਼ਾਲੀ (ਵਰਤਮਾਨ ਸਮੋਂ ਦੇ ਬਿਹਾਰ ਵਿਚ ਵੈਸ਼ਾਲੀ ਲਈ ਪਾਲੇ) ਵਿਚ ਇਨ੍ਹਾਂ ਮੌਖਿਕ ਪ੍ਰਵਚਨਾਂ ਨੂੰ ਸੰਕਲਨ ਕੀਤਾ। ਸਾਹਿਤਕ ਤੌਰ 'ਤੇ ਇਨ੍ਹਾਂ ਸੰਕਲਨ ਨੂੰ ਤਿਪਿਤਕਾ ਗ੍ਰੰਥ ਕਿਹਾ ਜਾਂਦਾ ਹੈ, ਜਿਸਦਾ ਅਰਥ ਹੈ ਟੋਕਰੀ ਜਿਸ ਵਿਚ ਤਿੰਨ ਅੱਲਗ ਕਿਸਮ ਦੀਆਂ ਕਿਤਾਬਾਂ ਰੱਖੀਆਂ ਜਾਂਦੀਆਂ ਹਨ। ਪਹਿਲਾਂ ਉਨ੍ਹਾਂ ਦਾ ਮੌਖਿਕ ਰੂਪਾਂਤਰ ਕੀਤਾ ਗਿਆ, ਬਾਅਦ ਵਿਚ ਲਿਖਤੀ ਹੋਇਆ ਅਤੇ ਇਨ੍ਹਾਂ ਦੀ ਵਰਗ ਵੰਡ ਆਕਾਰ ਅਤੇ ਵਿਸ਼ੇ ਦੇ ਆਧਾਰ ਤੇ ਕੀਤੀ ਗਈ।

ਵਿਨਯਪਟਿਕ ਗ੍ਰੰਥ ਵਿਚ ਸੰਘ ਵਿਚ ਸ਼ਾਮਿਲ ਹੋਣ ਵਾਲੇ ਵਿਅਕਤੀਆਂ ਲਈ ਨਿਯਮ ਦਰਜ ਹਨ। ਮਹਾਰਾਮਾ ਬੁੱਧ ਦੀਆਂ ਸਿਖਿਆਵਾਂ ਸੁਭ ਪਟਿਕਾ ਗ੍ਰੰਥ ਵਿਚ ਦਰਜ ਹਨ। ਦਾਰਸ਼ਨਿਕ ਪੱਧਰੀਆਂ ਬਾਰੇ ਅਭਿਧੰਮ ਪਟਿਕਾ ਗ੍ਰੰਥ ਵਿਚ ਜਾਣਕਾਰੀ ਮਿਲਦੀ ਹੈ। ਹਰੇਕ ਪਟਿਕਾ ਦੇ ਆਪਣੇ ਗ੍ਰੰਥ ਵੀ ਹਨ। ਬੋਧੀ ਵਿਚਾਰਕਾਂ ਦੁਆਰਾ ਟਿਪੋਟੀਆਂ ਵੀ ਦਰਜ ਕੀਤੀਆਂ ਗਈਆਂ ਹਨ।

ਬੁੱਧ ਧਰਮ ਸ਼੍ਰੀਲੰਕਾ ਵਿਚ ਪਹੁੰਚਿਆ ਤਾਂ ਦੀਪਾਵਸਸਾ (ਟਾਪੂ ਦੀ ਲੜੀ) ਅਤੇ ਮਹਾਂਵਾਸਸਾ ਗ੍ਰੰਥ ਰਚੇ ਗਏ। ਇਨ੍ਹਾਂ ਵਿਚ ਬੁੱਧ ਧਰਮ ਦੀਆਂ ਖੇਤਰੀ ਕਹਾਣੀਆਂ ਦਰਜ ਹਨ। ਇਨ੍ਹਾਂ ਵਿਚ ਬੁੱਧ ਦੇ ਜੀਵਨ ਦਾ ਸ਼ਿਕਰ ਵੀ ਹੈ। ਸਭ ਤੋਂ ਪੁਰਾਣੀਆਂ ਲਿਖਤਾਂ ਪਾਲੀ ਭਾਸ਼ਾ ਵਿਚ ਹਨ ਜਦਕਿ ਸਮਾਂ ਬੀਤਣ ਨਾਲ ਇਨ੍ਹਾਂ ਨੂੰ ਸੰਸਕ੍ਰਿਤ ਭਾਸ਼ਾ ਵਿਚ ਅਨੁਵਾਦਤ ਕਰ ਦਿਤਾ ਗਿਆ।

ਜਦੋਂ ਬੁੱਧ ਧਰਮ ਪੂਰਬ ਵੱਲ ਫੈਲਿਆ ਤਾਂ "ਫਾ ਹੀਯਾਨ" ਅਤੇ "ਜੂ ਯਾਂਗ" ਨੇ ਇਨ੍ਹਾਂ ਲਿਖਤਾਂ ਦੀ ਭਾਲ ਲਈ ਚੀਨ ਤੇ ਭਾਰਤ ਦੀ ਯਾਤਰਾ ਕੀਤੀ। ਫਿਰ ਉਹ ਇਨ੍ਹਾਂ ਲਿਖਤਾਂ ਨੂੰ ਆਪਣੇ ਦੇਸ਼ ਲੈ ਗਏ ਅਤੇ ਆਪਣੀ ਭਾਸ਼ਾ ਵਿਚ ਇਨ੍ਹਾਂ ਗ੍ਰੰਥਾਂ ਦਾ ਅਨੁਵਾਦ ਕੀਤਾ। ਭਾਰਤੀ ਬੋਧੀ ਗੁਰੂ ਬੁੱਧ ਦੀਆਂ ਸਿੱਖਿਆਵਾਂ ਨੂੰ ਸੰਸਾਰ ਦੇ ਅਲੱਗ-ਅਲੱਗ ਦੇਸ਼ਾਂ ਵਿਚ ਲੈ ਕੇ ਗਏ।

ਏਸ਼ੀਆ ਦੇ ਅਲੱਗ ਅਲੱਗ ਹਿੱਸਿਆਂ ਵਿਚ ਬੋਧੀ ਮੱਠਾਂ ਵਿਚ ਇਹ ਰਚਨਾਵਾਂ ਸਾਂਭ ਕੇ ਰੱਖੀਆਂ ਗਈਆਂ ਹਨ। ਬੋਧੀ ਰਚਨਾਵਾਂ ਦੇ ਵਰਤਮਾਨ ਰੂਪਾਂਤਰ ਪਾਲੀ, ਸੰਸਕ੍ਰਿਤ, ਚੀਨੀ ਅਤੇ ਤਿੱਬਤੀ ਭਾਸ਼ਾ ਤੋਂ ਕੀਤੇ ਗਏ ਹਨ।

ਅਸ਼ੀਕ ਨੇ ਬੁੱਧ ਦੇ ਮੁੱਖਚਨਾ ਦੇ ਹਿੱਸਿਆਂ ਨੂੰ ਹਰੇਕ ਸ਼ਹਿਰ ਵਿਚ ਵੰਡਿਆ ਅਤੇ ਉਨ੍ਹਾਂ ਤੇ ਸਰੂਪ ਉਸਾਰਨ ਲਈ ਹੁਕਮ ਜਾਰੀ ਕੀਤਾ। ਨਿਮਨਲਿਖਤ ਲਿਖਤਾਂ ਵਿਚੋਂ ਕਿਸ ਵਿਚ ਇਸ ਦਾ ਵਿਸਥਾਰ ਹੈ ?

- (1) ਮਹਾਂਵਿਸਸਾ
- (2) ਵਿਨਯਪਟਿਕਾ
- (3) ਅਸ਼ੋਕਵੰਦਨਾ
- (4) ਅਭਿਧੰਮ ਪਟਿਕਾ

Options :

212807119357 1

212807119358 2

212807119359 3

212807119360 4

Question Number : 245 Question Id : 21280719840 Question Type : MCQ Option Shuffling : No Is Question Mandatory : No Calculator : None  
Response Time : N/A Think Time : N/A Minimum Instruction Time : 0

Correct Marks : 5 Wrong Marks : 1

Question Key Details :

Key	Value
Comprehension	Compl.



சீழ்க்காணும் பத்தியைப் படித்து வினாக்களுக்கு விடையளிக்கவும்.

புத்தரும் (ஏனைய இதர போதகர்களும்) விவாதங்கள், கலந்துரையாடல்கள் மூலம் வாய்மொழியாக கற்பித்தனர். ஆண்கள், பெண்கள் மற்றும் குழந்தைகளும் இந்த கலந்துரையாடல்களில் கலந்து கொண்டனர். தாங்கள் கேட்டவை குறித்து விவாதித்தனர். புத்தரின் சொற்பொழிவுகள் எதுவும், அவர் வாழ்ந்த காலத்தில் எழுதி எவக்கப்பட்டவில்லை. அவர் காலமானதற்கு சிறகு (சி.மு. 3-4 -ஆம் நூற்றாண்டு) அவருடைய சீடர்கள், மூத்தவர்கள் அல்லது பெரியவர்கள் அடங்கிய சபையில், வெசாலி என்ற இடத்தில் (எவசாலி பாஸி மொழியில்) இவற்றை ஒன்று திரட்டினர். இவை 'திரிட்கா' என்று (மூன்று கடைகள்) பல்வேறு நூல்கள் கொண்ட தொகுப்பாகும். முதலில் வாய்மொழியாகக் கூறப்பட்ட இவை, பின்னர், நூல்களாக எழுதப்பட்டு, அவற்றின் நீளம் மற்றும் விஷயத்தின் அடிப்படையில் பிரிக்கப்பட்டன.

சங்கம் அல்லது பௌத்த விகாரத்தில் இணைந்தவர்களுக்காக விதிகள் மற்றும் நெறிமுறைகள் விளைய பீடகாவில் இடம் பெற்றன; புத்தரின் போதனைகள் அந்த பீடகாவிலும், தத்துவார்த்த விஷயங்கள் அபிதம்ம பீடகாவிலும் இடம் பெற்றன. ஒவ்வொரு பீடகாவிலும் தனித்தனியான பல நூல்கள் இடம் பெற்றிருந்தன. பின்னர் இந்த நூல்கள் குறித்து பௌத்த சான்றோர் வர்ணனைகள்/கருத்துக்கள் எழுதினர்.

இவர்களை பொன்ற இதர புதிய பிராந்தியங்களுக்கு பௌத்தம் பரவிய போது, அந்த பிராந்தியங்களின் பௌத்த வரலாறுகள் அடங்கிய தீபவம்சம் (தீவு-காலவரிசை) மற்றும் மஹாவம்சம் (மகத்தான காலவரிசை) ஆகியன எழுதப்பட்டன. பெரும்பாலான இந்த நூல்களில் புத்தரின் வாழ்க்கை வரலாறு எழுதப்பட்டிருந்தன. சில பழமையான புத்தகங்கள் பாஸி மொழியில் உள்ளன. இவை பின்னர் சமஸ்கிருத மொழியில் எழுதப்பட்டன.

மொத்த சிழக்காசியாவிற்கு பௌத்தம் பரவிய போது பாரதியான் மற்றும் புலான் கவாங் கீனாவிலிருந்து இந்தியாவிற்கு இந்த நூல்களைத் தேடி வந்தனர். இவற்றை அவர்கள் தங்கள் சொந்த நாட்டிற்கு கொண்டு சென்றனர். அங்கு அவை சான்றோர்களால் மொழி பெயர்க்கப்பட்டன. புத்தரின் போதனைகளை எடுத்துரைக்க, இந்திய பௌத்த போதகர்கள், பௌத்த நூல்களை தொலைதூர இடங்களுக்கு கொண்டு சென்றனர்.

ஆசியாவின் பல்வேறு பௌத்த மடாமைக்களில், பௌத்த நூல்களின் கையெழுத்துப் பிரதிகள் பல நூற்றாண்டுகளுக்கு பாதுகாக்கப்பட்டன. பாஸி, சமஸ்கிருதம், சீனம் மற்றும் திப்புத்திய நூல்களில் இருந்து நவீன மொழி பெயர்ப்புகள் செய்யப்பட்டன.

புத்தரின் புனித எச்சங்களை அடோகர் முக்கியமான நகரங்கள் ஒவ்வொன்றும் விவியோகித்தார். அவற்றின் மீது கித்தாபங்கள் எழுப்பவும் ஆணையிட்டார். எந்த நூலில் இது குறித்த விவரங்கள் காணப்படுகின்றன ?

- (1) மஹாவம்சா
- (2) விளைய பீடகா
- (3) அசோக வதனா
- (4) அபிதம்ம பீடகா

Options :

212807119357 1

212807119358 2

212807119359 3

212807119360 4

Question Number : 245 Question Id : 21280719840 Question Type : MCQ Option Shuffling : No Is Question Mandatory : No Calculator : None Response Time : N/A Think Time : N/A Minimum Instruction Time : 0

Correct Marks : 5 Wrong Marks : 1

Question Key Details :

Key	Value
Comprehension	Comp1

కింది గద్దాంశం చదివి ప్రశ్నలకు సమాధానం ఇవ్వండి :

బుద్ధుడు (మరియు ఇతర ఉపాధ్యాయులు) మౌఖికముగా తర్కములు మరియు వాదనలతో టోధించారు. పురుషులు మరియు స్త్రీలు (పిల్లలు కూడా) ఈ సంభాషణలు అనుసరించారు మరియు వారు ఏమీ విన్నారో చర్చించుకున్నారు. బుద్ధుని ఏ ఒక్క భాషణములు అతని జీవితకాలంలో వ్రాయలేదు. తన మరణానంతరం (c. 54 శతాబ్దం BCE) వైశాలి వద్ద (ప్రస్తుత బీహార్ లో వైశాలి కొరకు పాలి) వృద్ధ సాధువులు లేదా కౌన్సిల్ లోని పెద్దవారి వద్ద శిష్యులు తన బోధనలని సమకూర్చారు. ఈ సమకూర్పులు త్రిపీటికంగా పిలవబడ్డాయి-సాహిత్యంగా విభిన్న రచనలను చేర్చుటకు మూడు బుట్టలు. అవి మొదటగా వీటితో ప్రచారం చేయబడి తర్వాత వాటి పొడవు మరియు విషయం ప్రకారం రచించబడి వేరు చేయబడ్డాయి.

వినయ పీటకం సంఘంలో చేరిన వారి లేదా సాధు క్రమం యొక్క నియమ నిబంధనలు కలిగి ఉంది. సుత్త పీటికలో బుద్ధుని బోధనలు మరియు అభిదమ్మ పీటకంలో తత్వశాస్త్ర విషయాలు ఉన్నాయి. వ్రత పీటకం అఖండమైన రచనలు కలిగి ఉంది. తర్వాత బౌద్ధ నిపుణులచే రచనలపై వ్యాఖ్యానాలు చేయబడ్డాయి.

బౌద్ధమతం శ్రీలంకకు విస్తరించినప్పుడు, దీపవంశం (సాహిత్యంగా దీప్వ చరిత్ర) మహావంశం (గొప్ప చరిత్ర) అనే బౌద్ధ మత చరిత్రను కలిగిన రచనలు చేయబడ్డాయి. వీటిలో చాలా బుద్ధుడి ఆత్మకథలు. వీటిలో కొన్ని పురాతన రచనలు పాలిలో మరియు తర్వాత సంస్కృతంలో రచించబడ్డాయి.

తూర్పు ఆసియాకి బౌద్ధమతం వ్యాపించినప్పుడు ఫా డియాన్ మరియు జ్వాన్ జాంగ్ అను ఇద్దరు భిక్షులు సైనా నుండి ఇండియాకి ఈ రచనలను వెతుకుతూ ప్రయాణించారు. వీటిని వారి దేశానికి తీసుకెళ్ళి అక్కడ నిపుణులచే అనువదించారు. బుద్ధుని బోధనలు ప్రచారం చేయడానికి ఈ రచనలని భారత బౌద్ధులు కూడా చాలా దూరం తీసుకెళ్ళారు. బుద్ధుని రచనలు చాలా శతాబ్దాలు ఆసియా లోని వివిధ ప్రాంతాల ఆశ్రమాలలో ప్రతులుగా సంరక్షించబడ్డాయి. పాలి, సంస్కృతం, చైనీస్ మరియు దీజెటన్ రచనల నుండి ఆధునిక అనువాదములు తయారుచేయబడ్డాయి.

అకోకుడు బుద్ధుని అపకేష భాగాలను వ్రత ముఖ్య పట్టణానికి పంపించి దానిపై స్థూపాలను నిర్మించమని ఆదేశించాడు. ఈ విషయాన్ని కింది వాటిలో ఏ రచన కలిగి ఉంది ?

- (1) మహావంశం
- (2) వినయ పీటకం
- (3) అశోకపదనం
- (4) అభిదమ్మ పీటకం

Options :

212807119357 3

212807119358 3

212807119359 3

212807119360 4

Question Number : 245 Question Id : 21280729840 Question Type : MCQ Option Shuffling : No Is Question Mandatory : No Calculator : None Response Time : N/A Think Time : N/A Minimum Instruction Time : 0

Correct Marks : 5 Wrong Marks : 1

Question Key Details :

Key	Value
-----	-------

اقتباس پڑھیں اور سوالوں کے جواب لکھیں۔

بدھا (اور دیگر اساتذہ) نے زبانی پڑھایا۔ مباحث اور استدلال کے ذریعے مراد اور عورت (شاید بچے بھی) اس کے گفتگو کو سننے آتے تھے اور جو سنتے تھے اس پر بحث کرتے تھے۔ بدھا کی زندگی میں ان کی کوئی بھی تقریر نہیں لکھی گئی۔ ان کی رحلت کے بعد (4th-5th BC) وپسالی (پالی میں ویشالی) میں ان کے شاگردوں نے ان کی تعلیمات کو بڑے سادہ و بڑوں کی کونسل میں جمع کیا۔ ان تعلیمات کوئی پنک (Tipitaka) کہتے ہیں۔ جبکہ لفظی معنی ہے تین ٹوکریاں الگ الگ طرح کی تحریروں کو رکھنے کیلئے وہ پہلے زبانی منتقل کی گئیں اور پھر لکھی گئیں اور ان کو لمبائی اور موضوع کے حساب سے تقسیم کیا گیا۔

ونے پنک (Vinaya Pitaka) میں ساگھا شامل ہونے والوں یا درویش طبقہ میں شامل ہونے والوں کیلئے اصول و ضوابط ہیں۔

بدھ ازم نے نئے علاقوں کا سفر کیا جیسے سری لنکا اور دوسری تصانیف جیسے دیپاوامسہ (Dipavamsa) جزیرہ کی تاریخ اور مہاومسہ (Mahavamsa) بڑی تاریخ و ستاویز لکھی گئی۔ جس میں بدھ ازم کی علاقائی تاریخ ان میں سے کچھ تحریروں میں بدھا کی سوانح ہیں۔ قدیم تحریروں میں پالی میں ہیں جبکہ بعد کی مرتب تصانیف سنسکرت میں۔

بدھ ازم جب پورے مشرقی ہندوستان میں پھیل گیا تو کچھ پاتری جیسے کہ فابیان (Faxian) اور زوان (XuanZang) ووجھن سے ہوتے ہوئے تصانیف کی تلاش میں ہندوستان پہنچے۔ وہ تصانیف واپس اپنے ملک لے گئے جہاں اسکا لرنے ان کا ترجمہ کیا۔

ہندوستانی بودھی اساتذہ و دور دراز علاقوں کے سفر کے کتابوں کے ساتھ بدھا ازم کی تبلیغ کر کے پھیلایا۔

بودھی تحریروں کے مخطوطات کو صدیوں تک ایشیا کے مختلف محافظ خانوں میں محفوظ رکھا گیا ہے۔ جدید ترجمہ نگاروں نے پالی، تبتی اور چینی تحریروں سے اس کو تیار کیا۔

اشوک نے بدھا کی باقیات کو اہم شہروں میں تقسیم کیا اور حکم دیا کہ ان پر انگوٹیا کی تعمیر کی جائے۔ اس کا مفصل بیان کس تحریر میں ملتا ہے۔

(1) مہاومسہ (Mahavamsa)

(2) وینایا پیٹاکا (Vinaya Pitaka)

(3) اشوکا دانا (Ashokavadana)

(4) ابھیدھما پیٹاکا (Abhidhamma Pitaka)

Options :

212807119383 1

212807119358 2

212807119359 3

212807119360 4

Sub-Section Number :

3

Sub-Section Id :

2128072158

Question Shuffling Allowed :

No

Is Section Default? :

null

Question Number : 246 Question Id : 21280729841 Question Type : MCQ Option Shuffling : No Is Question Mandatory : No Calculator : None

Response Time : N/A Think Time : N/A Minimum Instruction Time : 0

Correct Marks : 5 Wrong Marks : 1

Question Key Details :

Key	Value
Comprehension	Comp2

Read the passage and answer the question :

**From the Fifth report**

Referring to the condition of zamindars and the auction of lands, the Fifth Report stated :

The revenue was not realised with punctuality, and lands to a considerable extent were periodically exposed to sale by auction. In the native year 1203, corresponding with 1796-97, the land advertised for sale comprehended a *jumma* or assessment of *sicca* rupees 28, 70, 061, the extent of land actually sold bore a *jumma* or assessment of 14, 18, 756, and the amount of purchase money *sicca* rupees 17, 90, 416. In 1204. Corresponding with 1797-98, the land advertised was for *sicca* rupees 22, 66, 191, the quantity sold was for *sicca* rupees 22, 74, 076 and the purchase money *sicca* rupees 21, 47, 580. Among the defaulters were some of the oldest families of the country, Such were the rajahs of Nuddea, Rajeshaye, Bishenpore (all districts of Bengal), ... and others, the dismemberment of whose estates at the end of each succeeding year, threatened them with poverty and ruin, and in some instances presented difficulties to the revenue officers, in their efforts to preserve undiminished the amount of public assessment.

Identify the correct statements.

- (A) The fifth report was the result of British inquiry about the mal-administration and corruption done by the English East India Company.
- (B) The fifth report can be accepted uncritically.
- (C) The fifth report had 1002 pages.
- (D) The fifth report contained the census of peasants.

Choose the correct answer from the options given below :

- (1) (A), (D) only
- (2) (A), (B) only
- (3) (A), (C) only
- (4) (B), (D) only

Options :

212807119361 1

212807119362 2

212807119363 3

212807119364 4

Question Number : 246 Question Id : 21280719841 Question Type : MCQ Option Shuffling : No Is Question Mandatory : No Calculator : None

Response Time : N.A Think Time : N.A Minimum Instruction Time : 0

Correct Marks : 5 Wrong Marks : 1

Question Key Details :

Key	Value
Comprehension	Comp2

निम्नलिखित गद्यांश को पढ़कर नीचे दिये गये प्रश्न का उत्तर दीजिए :

**पाँचवीं रिपोर्ट से उद्धृत**

जमींदारों की हालत और ज़मीनों की नीलामों के बारे में पाँचवीं रिपोर्ट में कहा गया है :

राजस्व समय पर नहीं वसूल किया जाता था और काफी हद तक ज़मीनों समय-समय पर नीलामी पर बेचने के लिए रखी जाती थीं। स्थानीय वर्ष 1203, तदनुसार सन् 1796-97 में चिक्ली के लिए विज्ञापित ज़मीन की निर्धारित राशि (जुम्मा) 28, 70, 061 सिक्का रु. थी और वह वास्तव में 17, 90, 416 रु. में बेची गई और 14, 18, 756 रु. की राशि जुम्मा के रूप में प्राप्त हुई। स्थानीय संवत् 1204, तदनुसार सन् 1797-98 में 22, 66, 191 सिक्का रु. के लिए ज़मीन विज्ञापित की गई, 22, 74, 076 सिक्का रु. की ज़मीन बेची गई और क्रय राशि 21, 47, 580 सिक्का रु. थी। बाकीदारों में कुछ लोग देश के बहुत पुराने परिवारों में से थे। ये थे : नदिया, राजशाही, विशनपुर (सभी बंगाल के जिले) आदि के राजा...। साल दर साल उनकी जागीरों के टूटने जाने से उनकी हालत बिगड़ गई। उन्हें गरीबी और अर्बादी का सामना करना पड़ा और कुछ मामलों में तो सार्वजनिक निर्धारण की राशि को सथावत बनाए रखने के लिए राजस्व अधिकारियों को भी काफी कठिनाइयों उठानी पड़ीं।

नीचे दिये गये कथनों में से सही कथन पहचानिए :

- (A) पाँचवीं रिपोर्ट ब्रिटिश ईस्ट इंडिया कंपनी के खराब प्रशासन और भ्रष्टाचार की अंग्रेजों द्वारा जींच का परिणाम थी।
- (B) पाँचवीं रिपोर्ट बिना किस आलोचना के स्वीकार कर ली गई।
- (C) पाँचवीं रिपोर्ट में 1002 पृष्ठ थे।
- (D) पाँचवीं रिपोर्ट में किसानों की जनगणना थी।

नीचे दिए गए विकल्पों में से सही उत्तर का चयन कीजिए :

- (1) केवल (A), (D)
- (2) केवल (A), (B)
- (3) केवल (A), (C)
- (4) केवल (B), (D)

Options :

212807119361 1

212807119362 2

212807119363 3

212807119364 4

Question Number : 246 Question Id : 21280719841 Question Type : MCQ Option Shuffling : No Is Question Mandatory : No Calculator : None

Response Time : N/A Think Time : N/A Minimum Instruction Time : 0

Correct Marks : 5 Wrong Marks : 1

Question Key Details :

Key	Value
Comprehension	Comp2

তলৰ পাঠ্যংশ আৰু প্ৰশ্নসমূহৰ উত্তৰ দিয়া :

পঞ্চম প্ৰতিবেদনৰ পৰা

জমিদাৰৰ অৱস্থা আৰু মাটি নিলামৰ কথা পঞ্চম প্ৰতিবেদনত উল্লেখ কৰা হৈছে :

ৰাজহ সময়মতে মুকলি কৰা হোৱা নাছিল আৰু মাটিবেচৰ সময়ো সময়ো বিক্ৰীৰ দ্বাৰা নিলামৰ সন্মুখীন হৈছিল। 1203 চনত, 1796-97 ৰ সৈতে সংশ্লিষ্ট মাটিৰ বিক্ৰীৰ বাবে দিয়া বিজ্ঞাপন জুম্মা চিকা 28, 70, 061 টকা, অকৃততে বিক্ৰী হোৱা মাটিৰ পৰিসৰ 14, 18, 756, আৰু ক্ৰয়ৰ ধৰণ পৰিমাণ হৈছে 17, 90, 416 টকা। 1204 চনত 1797-98 ৰ লগত সংশ্লিষ্ট কৰা হয়; মাটিৰ বিক্ৰীৰ বাবে বিজ্ঞাপনৰ চিকা 22, 66, 191 টকা বিক্ৰীৰ পৰিমাণ আছিল চিকা 22, 74, 076 টকা আৰু ক্ৰয়ৰ ধৰণ আছিল চিকা 21, 47, 580 টকা। তাৰে মাজত কিছুমান ডিফল্টাৰ দেশৰ পুৰণি পৰিয়ালৰ পৰা আছিলে, মুক্তিচাৰ ৰাজহ তেনেকুৱাই আছিল। ৰাজেশ্বায়, বিষ্ণুপুৰ (বেংগলৰ জিলা) আৰু অনা, বাণিচাসমূহৰ বিভাজনে তাৰ পিছৰ প্ৰতিটো বছৰ শেষত দৰিদ্ৰতা আৰু কংসৰ ভাবুকি দিছিল, আৰু কিছুমান ক্ষেত্ৰত ৰাজহ বিঘ্নাসকলৰ বাবে অসুবিধাৰ সৃষ্টি হৈছিল: ৰাজহৰা মূল্যায়নৰ পৰিমাণ হ্রাস নকৰাকৈ তাক বন্ধ কৰাৰ প্ৰচেষ্টাত।

তলৰ উল্লেখিত উক্তি সমূহ পঢ়া :

- (A) পঞ্চম প্ৰতিবেদন আছিল অ-প্ৰশাসনিক আৰু ভ্ৰষ্টাচাৰক ব্ৰিটিছ আনুসন্ধানৰ ফলাফল।
- (B) পঞ্চম প্ৰতিবেদনখন সনালোচনা নকৰাকৈ গ্ৰহণযোগ্য।
- (C) পঞ্চম প্ৰতিবেদনত 1002 খন পৃষ্ঠা আছিল।
- (D) পঞ্চম প্ৰতিবেদনত কৃষকৰ লোকপিয়ল সন্নিবিষ্ট কৰা হৈছিল।

তলত দিয়া বিকল্পসমূহৰপৰা শুদ্ধ উত্তৰটো বাছি উলিওৱা :

- (1) কেবল (A) আৰু (D)
- (2) কেবল (A) আৰু (B)
- (3) কেবল (A) আৰু (C)
- (4) কেবল (B) আৰু (D)

Options :

- 112807119361 1
- 112807119362 2
- 112807119363 3
- 112807119364 4

Question Number : 246 Question Id : 21280729841 Question Type : MCQ Option Skuffing : No Is Question Mandatory : No Calculator : None Response Time : N.A Think Time : N.A Minimum Instruction Time : 0

Correct Marks : 5 Wrong Marks : 1

Question Key Details :

Key	Value
Comprehension	Comp2

অনুচ্ছেদটি পড়ো ও নিচের প্রশ্নের উত্তর দাও :

পঞ্চম রিপোর্ট থেকে

জমিদারদের অবস্থা ও জমির নিলাম সম্পর্কে পঞ্চম রিপোর্টে যা বিবৃত হয়েছিল :

রাজস্ব বর্ধাযথভাৱে সংগৃহীত হত না। নির্দিষ্ট সময়ের ব্যবধানে নিলামে জমি বিক্রির পরিস্থিতি তৈরি হত। বঙ্গাব্দ 1203-এ, ইংরেজি 1796-97 খ্রীষ্টাব্দে জমি বিক্রির জন্য বিজ্ঞাপন দেওয়া হয়েছিল। যার 'জুম্মা' বা মূল্য নির্ধারিত হয়েছিল 28, 70, 061 সিকা/টাকা, জমির প্রকৃতপক্ষে বিক্রিত মূল্য 'জুম্মা' বা নির্ধারিত করা ছিল 14, 18, 756 আর জমির ক্রয় মূল্য ছিল 17, 90, 416 সিকা টাকা। বঙ্গাব্দ 1204-এ ইংরেজি 1797-98 তে, বিজ্ঞাপন দেওয়া হয়েছিল যে, একটি জমি 22, 66, 191 সিকা টাকায়, জমিটির বিক্রিত মূল্য 22, 74, 076 সিকা টাকায় ও ক্রয় মূল্য ছিল 21, 47, 580 সিকা টাকা। যে জমিদাররা নির্দিষ্ট সময়ের মধ্যে নির্ধারিত খাজনা কোম্পানির সরকারকে দিত পারতো না- তাদের মধ্যে অনেকেই ছিলেন দেশের পুরানো জমিদার পরিবার। যেমন— নদীয়া, রাজশাহী, বিশেন্দুর (বাংলার সব জেলা), ও অন্যদের ক্ষেত্রে, যাদের জমিদারী খণ্ড-বিখণ্ড হয় পরবর্তী বছরগুলিতে, তারা দারিদ্র্যের শিকার হয় ও ধ্বংস হয়ে যাবে জমির বর্ধিত সরকারী রাজস্ব গুদানের বিষয়টি রক্ষা করতে গেলে। এই ধরণের কিছু সমস্যাবলী রাজস্ব আধিকারিকদের কাছে উপস্থাপিত হয়েছিল।

নিচের প্রদত্ত বিবৃতিগুলি পড়ো :

- (A) পঞ্চম রিপোর্ট ছিল ইস্ট ইন্ডিয়া কোম্পানি কর্তৃক অপশাসন ও দুর্নীতির বিষয়ে ব্রিটিশ অনুসন্ধানের ফলাফল।
- (B) পঞ্চম রিপোর্ট নির্বিধায় গ্রহণ করা যেতে পারে।
- (C) পঞ্চম রিপোর্টের পৃষ্ঠা সংখ্যা ছিল 1002।
- (D) পঞ্চম রিপোর্টে কৃষকদের সংখ্যা উল্লেখিত ছিল।

নিচের বিকল্পগুলি থেকে সঠিক উত্তরটি বেলা কর :

- (1) কেবলমাত্র (A) এবং (D)
- (2) কেবলমাত্র (A) এবং (B)
- (3) কেবলমাত্র (A) এবং (C)
- (4) কেবলমাত্র (B) এবং (D)

Option :

- 212807119561 1
- 212807119562 2
- 212807119563 3
- 212807119564 4

Question Number : 246 Question Id : 21280719841 Question Type : MCQ Option Shuffling : No Is Question Mandatory : No Calculator : None  
Response Time : N.A Think Time : N.A Minimum Instruction Time : 0

Correct Marks : 5 Wrong Marks : 1

Question Key Details :

Key	Value
Comprehension	Comp2

ફકરો વાંચીને નીચે આપેલા પ્રશ્નોના ઉત્તર આપો :

### પાંચમા અહેવાલમાંથી

જમીનદારોની સ્થિતિ અને જમીનોની હરાજના સંદર્ભમાં પાંચમો અહેવાલ જણાવે છે :

નીચમિત રીતે મહેસુલની આવકની પ્રાપ્તિ કરવામાં આવી ન હતી અને નોંધપાત્ર પ્રમાણમાં જમીનોને સમયાંતરે હરાજ દ્વારા વેચવામાં આવતી હતી. મૂળ વર્ષ 12113 માં 1796-97 ને અનુરૂપ વેચાણ માટે જાહેરાત કરાયેલી જમીનમાં સિક્કા રૂપિયા 28, 70, 061 ની જુમ્મા અથવા કર આકારણી, વાસ્તવમાં વેચાયેલી જમીનની હદ સિક્કા રૂપિયા 14, 18, 756 ની જુમ્મા અથવા કર આકારણી અને નાણા સિક્કા રૂપિયા 17, 90, 416. 1204 માં 1797-98 ને અનુરૂપ જાહેરાત કરાયેલ જમીન સિક્કા 22, 66, 191 માટે હતી, વેચવામાં આવેલ જથ્થો સિક્કા 22, 74, 076 અને ખર્ચાદીના નાણા સિક્કા 21, 47, 580 હતા. ડિફોલ્ટર્સ માના કેટલાક દેરાના સોંથી જુના પરિવારો પૈકીના હતા, જેમ કે નુદિયાના રાજા રાજેશાય, ખીરાનેપોર (બંગાળના બધા જિલ્લાઓ), ... અને અન્ય, જેમને દરેક આવનારા વર્ષને અંતે, એસ્ટેટના વિભાજનથી તેમને ગરીબી અને વિનાશનો ભય હતો, અને કેટલાક કિસ્સાઓમાં તેમણે મહેસુલ અધિકારીઓને જાહેર આકલનની સંપૂર્ણ સ્કમો જાળવવાના પ્રયાસોમાં પડતી મુશ્કેલીઓની સંજ્ઞાત કરી હતી.

નીચેનામાંથી સાચુ વિધાન ઓળખો.

- (A) પાંચમો અહેવાલ એ ઈસ્ટ ઈન્ડિયા કંપની દ્વારા કરવામાં આવેલા ખોટા વહીવટ અને ભ્રષ્ટાચાર વિશે બ્રિટિશ તથા સનુ પરિણામ હતો.
- (B) પાંચમો અહેવાલને અવિવેચનાત્મક રીતે (અવિચ્છન્ન કર્યા વગર) સ્વીકારી શકાય છે.
- (C) પાંચમો અહેવાલમાં 1002 પૃષ્ઠ હતો.
- (D) પાંચમો અહેવાલમાં ખેડૂતની વસ્તીગણતરી હતી.

નીચે આપેલા વિકલ્પોમાંથી સાચો ઉત્તર પસંદ કરો :

- (1) ફક્ત (A) અને (D)
- (2) ફક્ત (A) અને (B)
- (3) ફક્ત (A) અને (C)
- (4) ફક્ત (B) અને (D)

Options :

212807119361 3

212807119362 3

212807119363 3

212807119364 4

Question Number : 246 Question Id : 21280729841 Question Type : MCQ Option Shuffling : No Is Question Mandatory : No Calculator : None  
Response Time : N.A Think Time : N.A Minimum Instruction Time : 0

Correct Marks : 5 Wrong Marks : 1

Question Key Details :

Key	Value
Comprehension	Comp2



ವಾಕ್ಯ ಪುಂಜವನ್ನು ಓದಿ ಮತ್ತು ಪ್ರಶ್ನೆಗಳಿಗೆ ಉತ್ತರಿಸಿ :

ಐದನೇ ವರದಿಯಿಂದ

ಜಮೀನ್ದಾರರು ಮತ್ತು ಜಮೀನುಗಳ ಹರಾಜಿನ ಪರಿಷ್ಕೃತಿಯನ್ನು ಸೂಚಿಸಿ ಐದನೇ ವರದಿ ಹೇಳಿತ್ತು.

ಆದಾಯಗಳು ಸರಿಯಾದ ಸಮಯಕ್ಕೆ ವಾಸ್ತವವಾಗಿ ಬರಲಿಲ್ಲ ಮತ್ತು ಜಮೀನು ಆಗಾಗ್ಗೆ ಪರಿಗಣಿಸುವ ಹಾಗೆ ಹರಾಜು ಮಾರಾಟಕ್ಕೆ ತಿಳಿದು ಕೊಂಡಿತು ಸ್ಥಳೀಯ ವರ್ಷ 1203 ರಲ್ಲಿ 1796-97 ಸಮನಾಗಿ, ಮಾರಾಟಕ್ಕಿಟ್ಟು ಜಮೀನಿನ ಪಾಟಿರಾತು ಒಂದು ಜುಮ್ಮ ಅಥವಾ 28, 70, 061 ರೂಪಾಯಿಗಳ 'ಸಿಕ್ಕ್' ಬರಬಹುದೆಂದು ಗ್ರಹಿಸಲಾಗಿತ್ತು. ಆದರೆ ನಿಜವಾಗಿ ಜಮೀನಿನ ಬೆಲೆ ಒಂದು ಜುಮ್ಮ ಅಥವಾ 14, 18, 756 ಕ್ಕೆ ನಿರ್ಣಯಕ್ಕೆ ಮಾರಾಟವಾಯಿತು ಮತ್ತು ಕೊಂಡುಕೊಂಡ ಹಣದ ಮೂತ್ರವು 17, 90, 416 ರೂಪಾಯಿಗಳು 1204 ರಲ್ಲಿ 1797-98 ರ ಜೊತೆ ಸಮನಾಗಿ, ಪಾಟಿರಾತದ ಜಮೀನು 22, 66, 191 ಸಿಕ್ಕ್ ರೂಪಾಯಿಗಳಿಗೆ, ಮಾರಾಟವಾಗಿದ್ದು 22, 74, 076 ಸಿಕ್ಕ್ ರೂಪಾಯಿಗಳಿಗೆ ಮತ್ತು ಕೊಂಡುಕೊಂಡ ಹಣ 21, 47, 580 ಸಿಕ್ಕ್ ರೂಪಾಯಿಗಳು. ಸಾಲ ಮರು ಪಾವತಿಸದಿದ್ದವರಲ್ಲಿ ದೇಶದವ ಕೆಲವು ಅತ್ಯಂತ ಹಿರಿಯ ಕುಟುಂಬಗಳಾದ ಸುಡ್ಡಿಯಾದ ರಾಜರುಗಳು ಇದ್ದರು. ರಾಜ ಶಾಯಿ, ಬಿಷನ್‌ಪೋಡ್ (ಬಂಗಾಳದ ಎಲ್ಲಾ ಜಿಲ್ಲೆಗಳು) ಮತ್ತು ಇತರರು ತೋಟಗಳು ಪ್ರತೀ ವರ್ಷ ಕೊನೆ \* ಪೋಗಿ ಅವರಿಗೆ ಬಡತನ ಮತ್ತು ಅವನತಿಯ ಛೇತಿಯನ್ನು ಒಂಟುಮಾಡಿದರು, ಮತ್ತು ಕೆಲವು ಸಂದರ್ಭದಲ್ಲಿ ಸಾರ್ವಜನಿಕರ ನಿರ್ಣಯಗಳ ಪ್ರಮಾಣವನ್ನು ಉಳಿಸಿಕೊಳ್ಳುವ ಪ್ರಯತ್ನದಲ್ಲಿ ಕಂದಾಯ ಅಧಿಕಾರಿಗಳಿಗೆ ಸಂಕಷ್ಟ ಎದುರಾಯಿತು.

ಸರಿಯಾದ ಹೇಳಿಕೆಗಳನ್ನು ಗುರುತಿಸಿ :

- (A) ಐದನೇ ವರದಿಯ ಈಸ್ಟ್ ಇಂಡಿಯಾ ಕಂಪನಿಯವರ ದುರಾಡಳಿತ ಮತ್ತು ಭ್ರಷ್ಟಾಚಾರವನ್ನು ಟ್ರಿಟೀಷರು ವಿಚಾರಣೆ ಮಾಡಿದ್ದರಿಂದಾಯಿತು.
- (B) ಐದನೇ ವರದಿಯನ್ನು ವಿಮರ್ಶೆ ಮಾಡದೆ ಒಪ್ಪಿಕೊಳ್ಳಬಹುದು.
- (C) ಐದನೇ ವರದಿಯ 1002 ಪುಟಗಳನ್ನು ಹೊಂದಿತ್ತು.
- (D) ಐದನೇ ವರದಿಯ ರೈತರ ಜನಗಣತಿಯನ್ನು ಒಳಗೊಂಡಿತ್ತು.

ಕೆಳಗೆ ನೀಡಿರುವ ಆಯ್ಕೆಗಳಿಂದ ಸರಿಯಾದ ಉತ್ತರವನ್ನು ಆರಿಸಿ.

- (1) (A) ಮತ್ತು (D) ಮಾತ್ರ
- (2) (A) ಮತ್ತು (B) ಮಾತ್ರ
- (3) (A) ಮತ್ತು (C) ಮಾತ್ರ
- (4) (B) ಮತ್ತು (D) ಮಾತ್ರ

Options :

212807119361 3

212807119362 3

212807119363 3

212807119364 4

Question Number : 245 Question Id : 212807193641 Question Type : MCQ Option Shuffling : No Is Question Mandatory : No Calculator : None

Response Time : N.A Think Time : N.A Minimum Instruction Time : 0

Correct Marks : 5 Wrong Marks : 1

Question Key Details :

Key	Value
Comprehension	Comp2

उत्तरा वाचा आणि प्रश्नांचे उत्तर लिहा :

### पाचव्या अहवालातून

जमिनदारांचो परिस्थिती व जमिनींचा लिलाव याचा संदर्भ देवून पाचव्या अहवालात खालील नोंदी आढळतात :

महसूल नियमितपणे भरला जात नव्हता आणि बऱ्याच जमिनी ठराविक कालांतराने लिलाव करून विकण्यासाठी उपलब्ध करून दिल्या जात होत्या. इ.स. 1796-97 म्हणजे शके 1203 मध्ये विक्रीसाठी उपलब्ध असलेल्या व जाहिरात केलेल्या जमिनींचा 'जुम्मा' किंवा मूल्यांकन होते सिक्का रुपये 28, 70, 061 तर प्रत्यक्षात विकलेल्या जमिनींचा 'जुम्मा' किंवा खरेदी रकमेचे मूल्यांकन होते 14, 18, 756 तर खरेदीची रक्कम होती सिक्का 17, 90, 416 रुपये. इ.स. 1797-98 मध्ये म्हणजे शके 1204 मध्ये विक्रीसाठी उपलब्ध असलेल्या जाहिरात केलेल्या जमिनींचे मूल्य 22, 66, 191 तर विक्रीची रक्कम सिक्का 22, 74, 076 रुपये व खरेदीची रक्कम सिक्का 21, 47, 580 रुपये होती. थकबाकीदारांमध्ये देशालीत जुन्या कुटुंबांचा उदाहरणार्थ नुझोयाचे राजे यांचा समावेश होता. राजेशाये, विशेनपूर (बंगालचे सर्व जिल्हे) ... आणि इतर यांच्याबाबत प्रत्येक वर्षाच्या शेवटी त्यांच्या मालमतेचे विभाजन होत होत त्यांच्या डोक्यावर दारिद्र्य आणि न्हास होण्याचा धोका होता. काही ठिकाणी तर महसूला अधिकाऱ्यांना सार्वजनिक मूल्यांकनाची रक्कम कायम राखण्यात अडचणी आल्या.

योग्य विधाने ओळखा.

- (A) ब्रिटिश ईस्ट इंडिया कंपनीच्या गैरकारभारा विषयी आणि त्यांनी केलेल्या भ्रष्टाचारांमुळे परिणाम म्हणून पाचवा अहवाल सादर केला गेला.
- (B) कोणतीही चिकित्सा न करता पाचव्या अहवालाचा स्वीकार करता येईल.
- (C) पाचव्या अहवालात 1002 पृष्ठे आहेत.
- (D) पाचव्या अहवालात शेतकऱ्यांचा जनगणना अहवाल आहे.

खाली दिलेल्या पर्यायांमधून योग्य पर्याय निवडा :

- (1) फक्त (A) आणि (D)
- (2) फक्त (A) आणि (B)
- (3) फक्त (A) आणि (C)
- (4) फक्त (B) आणि (D)

Options :

212807119361 1

212807119362 2

212807119363 3

212807119364 4

Question Number : 246 Question Id : 21280719541 Question Type : MCQ Option Shuffling : No Is Question Mandatory : No Calculator : None

Response Time : N.A Think Time : N.A Minimum Instruction Time : 0

Correct Marks : 5 Wrong Marks : 1

Question Key Details :

Key	Value
Comprehension	Comp2

താഴെ നൽകിയിരിക്കുന്ന ഖണ്ഡിക വായിച്ച് അതിനു താഴെയുള്ള ചോദ്യങ്ങൾക്ക് ഉത്തരമെഴുതുക :

**അഞ്ചാം റിപ്പോർട്ടിൽ നിന്ന്**

സെമിനാർമാരുടെ അവസ്ഥയും ഭൂലേലവുമായി ബന്ധപ്പെട്ട് അഞ്ചാം റിപ്പോർട്ട് ഇങ്ങനെ പറയുന്നു :

വരുമാനം കൃത്യമായി വീതിച്ചു നൽകിയിരുന്നില്ലെന്നും ഭൂമി കൃത്യമായ ഇടവേളകളിൽ വിൽപ്പനയും നടത്താം 1796-97 ലെ കണക്കുകൾ താരതമ്യം ചെയ്താൽ, 1203 ലെ ഇവയുടെ (സ്ഥലത്തിന്റെ) സിക്ക (പണം) 28.70 61 സ്ഥലം വിറ്റു ജു. 14 - 18 756 വാങ്ങിയ സിക വില 17.90.416 ആയിരുന്നു. 1204 തുരേന്ന് 1797 ൽ പരസ്യപ്പെടുത്തിയത് പ്രകാരം സിക്ക. രൂപ 22.66.191 സിക്കയായി വിറ്റു അളവ് 2214. 076 മേടിച്ചത് 2147.580 കടക്കാരായവർ തിക്കവാറും പഴയ കൂടുംബങ്ങളായിരുന്നു. നെടിയ രാജാക്കന്മാരെ പോലെ ബംഗാളിലെ ജില്ലകളായ രാജ്ഷി ബിഷൻപൂർ ഇത്തരത്തിലുള്ള സംഭവവികാസങ്ങൾ നികൃതി പിരിക്കുന്നവർക്ക് പിന്നീട് പ്രശ്നമായി തീർന്നു. അവരുടെ പ്രവർത്തനം കൊണ്ട് പൊതുജനത്തിന്റെ സ്വത്ത് നശിക്കാതെ കാത്തു

താഴെ തന്നിരിക്കുന്ന പ്രസ്താവനകൾ വായിക്കുക.

- (A) അഞ്ചാമത്തെ റിപ്പോർട്ട് ബ്രിട്ടീഷ് ഈസ്റ്റ് ഇന്ത്യ കമ്പനി നടത്തിയ മോശം ഭരണത്തിന്റെയും അഴിമതിയുടെയും അന്വേഷണ റിപ്പോർട്ട് ആയിരുന്നു.
- (B) അഞ്ചാം റിപ്പോർട്ട് വിമർശനമില്ലാതെ ഉൾക്കൊണ്ടു.
- (C) അഞ്ചാം റിപ്പോർട്ട് 1002 ചേജുകൾ ഉണ്ടായിരുന്നു.
- (D) അഞ്ചാം റിപ്പോർട്ടിൽ കർഷകരുടെ കണക്കെടുപ്പ് നടത്തിയിരുന്നു.

താഴെ തന്നിരിക്കുന്നവയിൽ നിന്നും ശരിയായ ഉത്തരം തിരഞ്ഞെടുക്കുക.

- (1) (A) യും (E) യും മാത്രം
- (2) (A) യും (B) യും മാത്രം
- (3) (A) യും (C) യും മാത്രം
- (4) (B) യും (D) യും മാത്രം

Options :  
 212807119361 1  
 212807119362 2  
 212807119363 3  
 212807119364 4

Question Number : 246 Question Id : 21280719841 Question Type : MCQ Option Shuffling : No Is Question Mandatory : No Calculator : None  
 Response Time : N.A Think Time : N.A Minimum Instruction Time : 0  
 Correct Marks : 5 Wrong Marks : 1  
 Question Key Details :

Key	Value
Comprehension	Comp2

ଅନୁଲେଖନୀୟ ପଢ଼ନ୍ତୁ ଏବଂ ନିମ୍ନଲିଖିତ ପ୍ରଶ୍ନର ଉତ୍ତର ଦିଅନ୍ତୁ ।

**ପଞ୍ଚମ ରିପୋର୍ଟରୁ**

ଜନିତଜନନୀୟତା ଅବସ୍ଥା ଏବଂ ଜମି ନିରାମ ପ୍ରସଙ୍ଗରେ ପଞ୍ଚମ ରିପୋର୍ଟ ଦର୍ଶାଇଥିଲା :

ରାଜସ୍ୱ ଆୟ ଠିକ୍ ସମୟରେ ଆବୀକ୍ଷ୍ୟ କରାଯାଇ ନଥିଲା ଏବଂ ସବୁ ପରିମାଣରେ ଜମିଗୁଡ଼ିକ ନିରାମ କରାଯାଇଥିଲା । 1203 ମସିହାରେ ଏବଂ 1796-97 ମସିହାରେ ମଧ୍ୟ ଯେଉଁ ଜମିଗୁଡ଼ିକ ଚିତ୍ରିତ ହେବୁ ବିଜ୍ଞାପନ ଦିଆଯାଇଥିଲା ଏକ ନୂଆ/ଯାହାକି ଡିଏଲ୍ ଗୁପ୍ତ 28, 70, 061, ଇତ୍ୟାଦି ପର୍ଯ୍ୟନ୍ତ ଏକ ଛୁଆ 14, 18, 756 ଏବଂ ବିଭିନ୍ନ ମିଳିଥିବା ମୂଲ୍ୟ ବା ପରସା ଡିଏଲ୍ 17, 90, 416 । 1204 ଏବଂ 1797-98 ଯେଉଁ ଜମିଗୁଡ଼ିକର ବିଜ୍ଞାପନ ଦିଆଯାଇଥିଲା ଚାନ୍ଦାର ମୂଲ୍ୟ ଡିଏଲ୍ ଗୁପ୍ତ 22, 66, 191 ଯେଉଁ ପରିମାଣର ଚିତ୍ରିତ ହୋଇଥିଲା ଚାନ୍ଦାର ମୂଲ୍ୟ ଡିଏଲ୍ ଗୁପ୍ତ 22, 74, 076 ଏବଂ ବିଜ୍ଞାପନଥିବା ପରସା ଡିଏଲ୍ ଗୁପ୍ତ 21, 47, 580 । ବିରୁଦ୍ଧ କରିଥିବା ବ୍ୟକ୍ତିମାନଙ୍କ ମଧ୍ୟରେ ଦେଶର କିଛି ସବୁଠାରୁ ପୁରୁଣା ପରିବାର ଥିଲେ, ସେମାନେ ନୂତନତର ଭାଗ୍ୟମାନେ । ଶାକଶୟ, ବିଶେଷତଃ (ବେଙ୍ଗାଲର ସମସ୍ତ ଜିଲ୍ଲା) ଏବଂ ଅନ୍ୟ, ଯେଉଁମାନଙ୍କର ରୂପାଣି କ୍ରମାବଳରେ ହ୍ରାସ ପାଇଥିଲା । ସେମାନଙ୍କୁ ଦାରିଦ୍ର୍ୟ ନଷ୍ଟ କରିଦେବା ବୋଲି ଚିନ୍ତାଯାଇଥିଲା ଏବଂ କିଛି କ୍ଷେତ୍ରରେ ରାଜସ୍ୱ ଆୟ ଜମିଜରାମାନଙ୍କୁ କଳ କର ଆଦାୟ ସୁରକ୍ଷା କରିବାରେ ଅସୁବିଧା ହେଇଥିଲା ।

ନିମ୍ନଲିଖିତ ସମ୍ବନ୍ଧଗୁଡ଼ିକୁ ଧ୍ୟାନଦେଇ ପଢ଼ନ୍ତୁ :

- (A) ପଞ୍ଚମ ବିବରଣୀ, ଦ୍ୱିତୀୟ ଚରଣ ଯାହାକି ଇଷ୍ଟ ଇଣ୍ଡିଆ କମ୍ପାନୀ ଦ୍ୱାରା ହୋଇଥିବା ଅପପ୍ରଶାସନ ଏବଂ ଦୁର୍ନୀତି ବିଷୟରେ ଅବଗତ କରାଯାଇଥିଲା ।
- (B) ଏହି ପଞ୍ଚମ ବିବରଣୀକୁ ଜିନା ସମାଲୋଚନା ନକରି ଗ୍ରହଣ କରିନେବା ।
- (C) ଏହି ପଞ୍ଚମ ବିବରଣୀରେ 1002 ଟି ପୃଷ୍ଠା ଥିଲା ।
- (D) ଏହି ପଞ୍ଚମ ବିବରଣୀରେ କୃଷକମାନଙ୍କର ସଂଖ୍ୟା ଲେଖା ଯାଇଥିଲା ।

ନିମ୍ନରେ ଦିଆଯାଇଥିବା ବିକଳ ମଧ୍ୟରୁ ସଠିକ୍ ଉତ୍ତରକୁ ଚିହ୍ନଟ କରନ୍ତୁ ।

- (1) ଉତ୍ତର (A) ଏବଂ (D)
- (2) ଉତ୍ତର (A) ଏବଂ (B)
- (3) ଉତ୍ତର (A) ଏବଂ (C)
- (4) ଉତ୍ତର (B) ଏବଂ (D)

Options :  
212807119561 : 1  
212807119562 : 1  
212807119563 : 3  
212807119564 : 4

Question Number : 146 Question Id : 21280719641 Question Type : MCQ Option Shuffling : No Is Question Mandatory : No Calculator : None  
Response Time : N/A Think Time : N/A Minimum Instruction Time : 0  
Correct Marks : 5 Wrong Marks : 1  
Question Key Details :

Key	Value
Comprehension	Comp1

ਪੈਰੋ ਨੂੰ ਪੜ੍ਹੋ ਅਤੇ ਨਿਮਨਲਿਖਤ ਪ੍ਰਸ਼ਨ ਦੇ ਉਤਰ ਦਿਓ।

From the Fifth report

ਜ਼ਿੰਮੀਦਾਰਾਂ ਦੀ ਹਾਲਤ ਅਤੇ ਜ਼ਮੀਨ ਦੀ ਨਿਲਾਮੀ ਨੂੰ ਦਰਸਾਉਂਦੀ, ਪੰਜਵੀਂ ਰਿਪੋਰਟ ਨੇ ਕਿਹਾ :

ਕਰਾਂ ਦੀ ਅਦਾਇਗੀ ਇਮਾਨਦਾਰੀ ਨਾਲ ਨਾ ਕਰਨ ਕਰਕੇ ਜ਼ਮੀਨ ਨੂੰ ਨਿਲਾਮ ਕਰਦੇ ਵੇਚਣ ਲਈ ਵਿਚਾਰਣਯੋਗ ਹੋਣਾ ਪਿਆ। 1203 ਦੇ ਸਾਲ ਦੇ ਮੁਕਾਬਲੇ 1796-97 ਵਿਚ, ਜ਼ਮੀਨ ਨੂੰ ਵੇਚਣ ਲਈ 'ਜ਼ਮੀ' ਦੇ ਆਧਾਰ ਤੇ ਇਸ਼ਤਿਹਾਰ ਦਿਤਾ ਗਿਆ। 1204 ਵਿਚ ਇਹ ਸਿੱਕਿਆਂ ਦਾ ਅੰਦਾਜ਼ਨ ਲਗਾਇਆ ਗਿਆ ਕਿ 28, 70, 061 ਵਿਚ ਵਿਕੇਗੀ ਪਰ ਜ਼ਮੀਨ ਦੀ ਹੱਦ 'ਜ਼ਮੀ' ਵਿਚ ਵਿਕੀ ਇਸਦੀ ਕੀਮਤ 14, 18, 756 ਸੀ ਅਤੇ 'ਸਿੱਕੇ' ਨੂੰ ਖਰੀਦਣ ਦੀ ਕੀਮਤ 17, 90, 416 ਸੀ। 1797-98 ਅਨੁਸਾਰ ਜ਼ਮੀਨ ਦੀ ਇਸ਼ਤਿਹਾਰੀ ਕੀਮਤ 'ਸਿੱਕਾ' ਰੁਪਏ ਵਿਚ 22, 66, 191, ਸਿੱਕਿਆਂ ਦੀ ਮਾਤਰਾ 22, 74, 076 ਵਿੱਚ ਵੇਚੇ ਗਏ ਅਤੇ 21, 47, 580 ਰੁਪਏ ਵਿਚ 'ਸਿੱਕਾ' ਰੁਪਏ ਵੇਚੇ ਗਏ। ਦੇਸ਼ ਦੇ ਸਭ ਤੋਂ ਪੁਰਾਣੇ ਪਰਿਵਾਰ ਦੇਸ਼ੀਆਂ ਦੀ ਸੂਚੀ ਵਿਚ ਸ਼ਾਮਲ ਸਨ, ਜਿਹੜੇ ਕਿ ਨੌਦਿਆਂ ਦੇ ਰਾਜੇ ਸਨ। ਰਾਜੇਸ਼ੇਅ, ਬਿਸ਼ਦਪੁਰ (ਬੰਗਾਲ ਦੇ ਸਾਰੇ ਜਿਲੇ) ਅਤੇ ਹੋਰਾਂ ਦੇ ਇਲਾਕੇ ਵੰਡ ਨਾਲ ਅਲੱਗ ਕਰ ਦਿੱਤੇ ਗਏ। ਉਨ੍ਹਾਂ ਨੂੰ ਗ਼ਰੀਬੀ ਅਤੇ ਉਜਾੜੇ ਲਈ ਧਮਕਾਇਆ ਗਿਆ। ਕੁਝ ਉਦਾਹਰਨਾਂ ਵਿਚ ਕਰ ਅਫ਼ਸਰਾਂ ਦੁਆਰਾ ਕਰ ਇਕੱਤਰ ਕਰਨ ਦੀਆਂ ਮੁਸ਼ਕਲਾਂ ਨੂੰ ਦਰਸਾਇਆ ਗਿਆ ਜਿਹੜੇ ਜਨਤਕ ਮੁਲਾਂਕਣ ਦੀ ਮਾਤਰਾ ਨੂੰ ਘੱਟੋ ਘੱਟ ਸੁਰੱਖਿਅਤ ਰੱਖਣ ਦੇ ਆਪਣੇ ਜਤਨ ਕਰਦੇ ਸੀ।

ਦਿੱਤੇ ਕਥਨਾਂ ਨੂੰ ਪੜ੍ਹੋ :

- (A) ਈਸਟ ਇੰਡੀਆ ਕੰਪਨੀ ਦੁਆਰਾ ਕੀਤਾ ਗਿਆ ਬ੍ਰਿਸਟਾਚਾਰ ਅਤੇ ਮਾੜੇ ਪ੍ਰਸ਼ਾਸ਼ਨ ਦੀ ਜਾਂਚ ਦਾ ਸਿੱਟਾ ਪੰਜਵੀਂ ਰਿਪੋਰਟ ਸੀ।
- (B) ਬਿਨ੍ਹਾ ਬਹਿਸ ਦੇ ਪੰਜਵੀਂ ਰਿਪੋਰਟ ਸਵੀਕਾਰ ਕੀਤੀ ਗਈ।
- (C) ਪੰਜਵੀਂ ਰਿਪੋਰਟ ਦੇ 1002 ਪੰਨੇ ਸਨ।
- (D) ਪੰਜਵੀਂ ਰਿਪੋਰਟ ਵਿਚ ਕਿਸ਼ਾਨਾਂ ਦੀ ਮਰਦਮ-ਸ਼ੁਮਾਰੀ ਸੀ।

ਹੇਠ ਲਿਖਿਆਂ ਵਿਕਲਪਾਂ ਵਿੱਚ ਸਹੀ ਉੱਤਰ ਦੀ ਚੋਣ ਕਰੋ :

- (1) ਸਿਰਫ਼ (A) ਅਤੇ (D)
- (2) ਸਿਰਫ਼ (A) ਅਤੇ (B)
- (3) ਸਿਰਫ਼ (A) ਅਤੇ (C)
- (4) ਸਿਰਫ਼ (B) ਅਤੇ (D)

Options :

112807119361 1

212807119362 1

312807119363 3

412807119364 4

Question Number : 246 Question Id : 21280719841 Question Type : MCQ Option Skuffling : No Is Question Mandatory : No Calculator : None

Response Time : N.A Think Time : N.A Minimum Instruction Time : 0

Correct Marks : 5 Wrong Marks : 1

Question Key Details :

Key	Value
Comprehension	Comp2

கீழ்க்காணும் பத்தியைப் படித்து வினாக்களுக்கு விடையளிக்கவும்.

(ஐந்தாம் அறிக்கையில் இருந்து எடுக்கப்பட்டது)

ஐயீன்தாரர்களின் நிலைமை மற்றும் நிலங்கள் ஏலம் விடப்பட்டது குறித்து ஐந்தாவது அறிக்கை கூறியதாவது :

காலந்தவறாமல் வருமானம் வசூலிக்கப்பட்டது; நிலங்கள் இயன்ற அளவிற்கு குறிப்பிட்ட கால இடைவெளியில் ஏலம் விடப்பட்டன. சொந்த ஆண்டு 1203 (இந்திய ஆண்டு) அதாவது 1796 - 97 -ல் விற்பனைக்கு அறிவிக்கப்பட்ட நிலத்தின் மீது ஜூம்மா என்ற மதிப்பீடு "சிக்கா" ரூபாய் 28,70,061 சேகரிக்கப்பட்டது; இதில் மதிப்பீடு சிக்கா ரூபாய் 14,18,576 மற்றும் விலைக்கு வாங்கப்பட்ட மதிப்பு சிக்கா ரூபாய் 17,90,416 ஆகும். 1204 -ல், அதாவது 1797-98 -ல் விற்பனைக்கு அறிவிக்கப்பட்ட நிலத்தின் மதிப்பு சிக்கா ரூபாய் 22,66,191; நிலம் விற்கப்பட்டதன் மதிப்பு சிக்கா ரூபாய் 22,74,076. வாங்கப்பட்ட நில மதிப்பு 21,47,580. நூடியா, ராஜஷாயி, போன்ற நாட்டின் மிகப் பழமையான குடும்பங்கள் பணம் செலுத்த தவறியவர்கள் பட்டியலில் இருந்தனர். ராஜஷாயி, பிஷன்பூர் (அனைத்தும் வங்காளத்தின் மாவட்டங்கள்) ஒவ்வொரு ஆண்டின் முடிவிலும் துண்டாடப்பட்ட பெரும் நிலப்பரப்பின் உரிமையாளர்கள் ஏழ்மை மற்றும் அழிவு கொண்டு அக்கறாத்தப்பட்டனர். சில நேரங்களில் வருவாய் அதிகாரிகளுக்கு, தங்கள் முயற்சியில் பொது மதிப்பீட்டு தொகையை குறையாமல் பார்த்துக் கொள்ள வேண்டிய நிலைக்குத் தள்ளப்பட்டனர்.

கீழ்க்காணும் கூற்றுக்களை படிக்கவும் :

- (A) ஐந்தாவது அறிக்கை என்பது கிழக்கிந்திய கம்பெனியின் முறைகேடான நிர்வாகம் மற்றும் ஈழம் குறித்த பிரிட்டிஷ் விசாரணையின் பலனாகும்
- (B) ஐந்தாவது அறிக்கையை விமர்சனம் இன்றி ஏற்றுக் கொள்ளலாம்
- (C) ஐந்தாவது அறிக்கை 1002 பக்கங்கள் கொண்டது
- (D) ஐந்தாவது அறிக்கையில் குடியானவர்களின் மக்கட்தொகை இடம் பெற்றிருந்தது

கீழ்க்காண்பதில் சரியான விடையைத் தேர்ந்தெடுக்கவும் :

- (1) (A) மற்றும் (D) மட்டும்
- (2) (A) மற்றும் (B) மட்டும்
- (3) (A) மற்றும் (C) மட்டும்
- (4) (B) மற்றும் (D) மட்டும்

Options :

- 212807119361 1  
212807119362 2  
212807119363 3  
212807119364 4

Question Number : 246 Question Id : 212807119341 Question Type : MCQ Option Shuffling : No Is Question Mandatory : No Calculator : None  
Response Time : N/A Think Time : N/A Minimum Instruction Time : 0

Correct Marks : 5 Wrong Marks : 1

Question Key Details :

Key	Value
Comprehension	Comp1

గద్యాంశం చదివి ప్రశ్నకు సమాధానం ఇవ్వండి :

(బదవ రిపోర్టు నుండి)

ఆమెందారులు మరియు భూమి వేలం పరిస్థితులను సూచించి బదవ రిపోర్టు ఇలా చెప్పింది :

రాబడి సకాలంలో రావడం లేదు మరియు చాలామట్టకు భూములు వేలం పొటతో అమ్ముడానికి పెట్టబడ్డాయి. 1203 సంవత్సరంలో, 1796-97 కు అనుసంధాన, అమ్ముడానికి ప్రకటించిన నేల అమ్ము లేదా సిక్యా యొక్క మూల్యాంకనం 28, 70, 061, యదార్థంగా అమ్ముబడిన నేల అమ్ము లేదా మూల్యాంకనం 14, 18, 756, మరియు ఖరీదు ధన మొత్తం సిక్యా రూపాయలు 17, 90, 416. 1204 లో, 1797-98 కు అనుసంధాన, అమ్ముడానికి ప్రకటించిన నేల అమ్ము లేదా సిక్యా యొక్క మూల్యాంకనం 22, 66, 191, యదార్థంగా అమ్ముబడిన నేల అమ్ము లేదా మూల్యాంకనం 22, 74, 076 మరియు ఖరీదు ధన మొత్తం సిక్యా రూపాయలు 21, 47, 580. అవరాధులలో కొందరు సుద్ధియా రాజుల వంటి దేశ పురాతన కుటుంబం వారు, రాజకాయ, వీషఫోం (ఐంగాల్ లోని అన్నీ జిల్లాలు) మరియు మిగతావి, ప్రతి తర్వాతి సంవత్సరం చివర వారి ఎస్టేట్లు విడదీయడం వారికి పేదరికం మరియు వినాశన భయాన్ని మరియు కొన్నింటిలో ప్రజా మూల్యాంక తగ్గిన మొత్తాన్ని సందర్శించడంలో రెవెన్యూ అధికారులకు ఇబ్బందులను కలిగించాయి.

కింద ఇచ్చిన ప్రకటనలు చదవండి :

- (A) ఈస్ట్ ఇండియా కంపనీచే దుస్ప్రతిపాలన మరియు అవనీతి గురించి బ్రిటిష్ విచారణ బదవ రిపోర్టు ఫలితం
- (B) బదవ రిపోర్టు సులువుగా ఎట్టువంటి విమర్శ లేకుండా అంగీకరించబడింది
- (C) బదవ రిపోర్టు 1002 పేజీలను కలిగి ఉంది
- (D) బదవ రిపోర్టు రైతుకూలీల జనాభా లెక్కలను కలిగి ఉంది

సరైన సమాధానం ఎన్నుకోండి :

- (1) (A) మరియు (D) మాత్రమే
- (2) (A) మరియు (B) మాత్రమే
- (3) (A) మరియు (C) మాత్రమే
- (4) (B) మరియు (D) మాత్రమే

Options :

- 212807119561 1
- 212807119562 2
- 212807119563 3
- 212807119564 4

Question Number : 246 Question Id : 21280719541 Question Type : MCQ Option Shuffling : No Is Question Mandatory : No Calculator : None Response Time : N.A Think Time : N.A Minimum Instruction Time : 0 Correct Marks : 5 Wrong Marks : 1

Question Key Details :

Key	Value
Comprehension	Comp2

پانچویں رپورٹ سے لئے گئے اقتباس کو پڑھیں اور سوالات کا جواب دیں۔

زمیندار کی حالت اور زمین کی نیلامی کا حوالہ دیتے ہوئے رپورٹ کہتا ہے:

زمینی منافع پابندی سے نہیں نکالا گیا اور عام طور سے زمینوں کی نیلامی کی گئی وہی سال 1203 بمطابق 97-1796 زمین جو سیل کے لگائی گئی اس کا اندازاً ہم (Jumm) 20,70,061 سکہ روپیہ تھا۔ جبکہ اصل زمین کی فروخت جو ہم (Jumm) پر مشتمل تھی وہ اندازاً 14,10,756 تھا اور جو بیسہ سکا اس کے فروخت کرنے پر لیا وہ تقریباً 17,90,416 تھا۔

1204 بمطابق 90-1797 میں زمین اشتہار کی گئی۔ 22,66,191 کے روپیہ (سکا) کے لئے اس میں 22,74,076 روپے لئے گئے۔

ڈیفنڈر میں ملک کی کچھ بڑے پرانے خاندان تھے جیسے کہ راجہ نودلر (Nudeler) راجھیا اور بسن پور، بنگال کے تمام اضلاع اور کچھ علاوہ جن کی ریاستیں الگ الگ شتم ہو گئی اور ہر آنے والے سال فرسبی نے دستک دی۔ اور کسی حد تک دیویو آیسر کے لئے مشکل ہو گیا کہ وہ کم نہ ہونے والے عوامی مالیت کی حفاظت کر سکیں۔

مندرجہ ذیل بیانات کو پڑھئے اور درست انتخاب کریں۔

(A) پانچویں رپورٹ برطانوی تحقیق کا مال از قلم اور ایسٹ انڈیا کمپنی کی گئی رشوت کا نتیجہ تھا۔

(B) پانچویں رپورٹ کو بغیر کسی تنقید کے تسلیم کیا گیا۔

(C) پانچویں رپورٹ کے 1002 صفحات تھے۔

(D) پانچویں رپورٹ میں کسانوں کی نمبر شمار کی تھی۔

دیئے گئے انتخابات میں درست جواب کا انتخاب کریں۔

(1) صرف A اور D

(2) صرف A اور B

(3) صرف A اور C

(4) صرف B اور D

Options :

112807119361 1

112807119362 2

112807119363 3

112807119364 4

Question Number : 247 Question Id : 21280729842 Question Type : MCQ Option Shuffling : No Is Question Mandatory : No Calculator : None

Response Time : N.A Think Time : N.A Minimum Instruction Time : 0

Correct Marks : 5 Wrong Marks : 1

Question Key Details :

Key	Value
Comprehension	Comp2



Read the passage and answer the question :

**From the Fifth report**

Referring to the condition of zamindars and the auction of lands, the Fifth Report stated :

The revenue was not realised with punctuality, and lands to a considerable extent were periodically exposed to sale by auction. In the native year 1203, corresponding with 1796-97, the land advertised for sale comprehended a *jumma* or assessment of *sicca* rupees 28, 70, 061, the extent of land actually sold bore a *jumma* or assessment of 14, 18, 756, and the amount of purchase money *sicca* rupees 17, 90, 416. In 1204. Corresponding with 1797-98, the land advertised was for *sicca* rupees 22, 66, 191, the quantity sold was for *sicca* rupees 22, 74, 076 and the purchase money *sicca* rupees 21, 47, 580. Among the defaulters were some of the oldest families of the country, Such were the rajahs of Nuddea, Rajeshaye, Bishenpore (all districts of Bengal), ... and others, the dismemberment of whose estates at the end of each succeeding year, threatened them with poverty and ruin, and in some instances presented difficulties to the revenue officers, in their efforts to preserve undiminished the amount of public assessment.

Which statement is correct about 'Fifth Report' ?

- (1) Fifth report gives information about the zamindars of Awadh and Orissa.
- (2) The fifth report was the result of British socio-religious reforms in India.
- (3) The fifth report became the basis of intense debate in Indian parliament.
- (4) The fifth report contains the invaluable information about zamindars.

Options :

212307119363.1

212307119364.2

212307119367.3

212307119368.4

Question Number : 24\* Question Id : 21230719842 Question Type : MCQ Option Shuffling : No Is Question Mandatory : No Calculator : None  
Response Time : N.A Think Time : N.A Minimum Instruction Time : 0

Correct Marks : 5 Wrong Marks : 1

Question Key Details :

Key	Value
Comprehension	Comp2

निम्नलिखित गद्यांश को पढ़कर नीचे दिये गये प्रश्न का उत्तर दीजिए :

### पाँचवीं रिपोर्ट से उद्धृत

ज़मींदारों की हालत और ज़मीनों की नीलामों के बारे में पाँचवीं रिपोर्ट में कहा गया है :

राजस्व समय पर नहीं वसूल किया जाता था और काफी हद तक ज़मीनें समय-समय पर नीलामों पर बेचने के लिए रखी जाती थीं। स्थानीय वर्ष 1203, तदनुसार सन् 1796-97 में बिहारी के लिए विज्ञापित ज़मीन की निर्धारित राशि (जुम्मा) 28, 70, 061 सिक्का रु. थी और वह वास्तव में 17, 90, 416 रु. में बेची गई और 14, 18, 756 रु. की राशि जुम्मा के रूप में प्राप्त हुई। स्थानीय संवत् 1204, तदनुसार सन् 1797-98 में 22, 66, 191 सिक्का रु. के लिए ज़मीन विज्ञापित की गई, 22, 74, 076 सिक्का रु. की ज़मीन बेची गई और क्रय राशि 21, 47, 580 सिक्का रु. थी। बाकौदारों में कुछ लोग देश के बहुत पुराने परिवारों में से थे। ये थे : नदिया, राजशाही, विशनपुर (सभी बंगाल के जिले) आदि के राजा...। साल दर साल उनकी जागीरों के टूटने जाने से उनकी हालत बिगड़ गई। उन्हें गरीबी और बर्बादी का सामना करना पड़ा और कुछ मामलों में तो सार्वजनिक निर्धारण की राशि को यथावत बनाए रखने के लिए राजस्व अधिकारियों को भी काफी कठिनाइयों उठानी पड़ीं।

'पाँचवीं रिपोर्ट' के संबंध में कौन-सा कथन सही है ?

- (1) पाँचवीं रिपोर्ट अवध और उड़ीसा के ज़मींदारों के विषय में जानकारी देती है।
- (2) पाँचवीं रिपोर्ट भारत में अंग्रेज़ों द्वारा सामाजिक-धार्मिक सुधारों का परिणाम थी।
- (3) पाँचवीं रिपोर्ट भारतीय संसद में गंभीर मंत्रणा का आधार बनी।
- (4) पाँचवीं रिपोर्ट में ज़मींदारों के संबंध में महत्वपूर्ण जानकारियाँ थीं।

Options :

212807119565 1

212807119566 2

212807119567 3

212807119568 4

Question Number : 247 Question Id : 21280719842 Question Type : MCQ Option Shuffling : No Is Question Mandatory : No Calculator : None

Response Time : N.A Think Time : N.A Minimum Instruction Time : 0

Correct Marks : 5 Wrong Marks : 1

Question Key Details :

Key	Value
Comprehension	Comp2

তালৰ পাঠাংশ আৰু প্ৰশ্নসমূহৰ উত্তৰ দিয়া :

### পঞ্চম প্ৰতিবেদনৰ পৰা

জমিদাৰৰ অৱস্থা আৰু মাটি নিলামৰ কথা পঞ্চম প্ৰতিবেদনত উল্লেখ কৰা হৈছে :

ৰাজহ সময়মতে মুকলি কৰা হোৱা নাছিল আৰু মাটিবেচৰ সময়ো সময়ো বিক্ৰীৰ বাৰা নিলামৰ সন্মুখীন হৈছিল। 1203 চনত, 1796-97 ৰ সৈতে সংশ্লিষ্ট মাটিৰ বিক্ৰীৰ বাবে দিয়া বিজ্ঞাপন জুমা চিকা 28, 70, 061 টকা, অকৃততে বিক্ৰী হোৱা মাটিৰ পৰিসৰ 14, 18, 756, আৰু ক্ৰয়ৰ ধৰণ পৰিমাণ হৈছে 17, 90, 416 টকা। 1204 চনত 1797-98 ৰ লগত সংশ্লিষ্ট কৰা হয়; মাটিৰ বিক্ৰীৰ বাবে বিজ্ঞাপনৰ চিকা 22, 66, 191 টকা বিক্ৰীৰ পৰিমাণ আছিল চিকা 22, 74, 076 টকা আৰু ক্ৰয়ৰ ধৰণ আছিল চিকা 21, 47, 580 টকা। তাৰে মাজত কিছুমান ডিফল্টাৰ দেশৰ পুৰণি পৰিয়ালৰ পৰা আছিলে, মুক্তিচাৰ ৰাজহ তেনেকুৱাই আছিল। ৰাজেশ্বায়, বিষ্ণুপুৰ (বেংগলৰ জিলা) আৰু অনা, বাণিচাসমূহৰ বিভাজনে তাৰ পিছৰ প্ৰতিটো বছৰ শেষত দৰিদ্ৰতা আৰু কংসৰ ভাবুকি দিছিল, আৰু কিছুমান ক্ষেত্ৰত ৰাজহ বিঘ্নাসকলৰ বাবে অসুবিধাৰ সৃষ্টি হৈছিল: ৰাজহৰা মূল্যায়নৰ পৰিমাণ হ্রাস নকৰাকৈ তাক বন্ধা কৰাৰ প্ৰচেষ্টাত।

পঞ্চম প্ৰতিবেদনৰ বিষয়ে কোনটো উক্তি শুদ্ধ বাছি উলিওৱা :

- (1) পঞ্চম প্ৰতিবেদনে অৱধ আৰু উৰিষ্যাৰ জমিদাৰৰ বিষয়ে তথ্য দিয়ে।
- (2) পঞ্চম প্ৰতিবেদন আছিল ভাৰতত খ্ৰিষ্টিয়ৰ সামাজিক-ধৰ্মীয় সংকল।
- (3) পঞ্চম প্ৰতিবেদনখন ভাৰতীয় সংসদত তীব্ৰ বিতৰ্কৰ ভিত্তি হৈছিল।
- (4) পঞ্চম প্ৰতিবেদনত জমিদাৰৰ অমূল্য তথ্যসমূহ সন্নিবিষ্ট কৰা হৈছে।

Options :

212807119363 1

212807119363 2

212807119363 3

212807119363 4

Question Number : 247 Question Id : 21280729642 Question Type : MCQ Option Shuffling : No Is Question Mandatory : No Calculator : None  
Response Time : N.A Think Time : N.A Minimum Instruction Time : 0

Correct Marks : 5 Wrong Marks : 1

Question Key Details :

Key	Value
Comprehension	Comp1

অনুচ্ছেদটি পড়ো ও নিচের প্রশ্নের উত্তর দাও :

পঞ্চম রিপোর্ট থেকে

জমিদারদের অবস্থা ও জমির মিলান সম্পর্কে পঞ্চম রিপোর্টে যা বিধৃত হয়েছিল :

রাজস্ব বন্দ্যবৎভাবে সংগৃহীত হত না। নির্দিষ্ট সময়ের ব্যবধানে নিলামে জমি বিক্রির পরিস্থিতি তৈরি হত। বঙ্গাব্দ 1203-এ, ইংরেজি 1796-97 খ্রীষ্টাব্দে জমি বিক্রির জন্য বিজ্ঞাপন দেওয়া হয়েছিল। যার 'জুম্মা' বা মূল্য নির্ধারিত হয়েছিল 28, 70, 061 সিক্কা টাকা, জমির প্রকৃতপক্ষে বিক্রিত মূল্য 'জুম্মা' বা নির্ধারিত কর ছিল 14, 18, 756 আর জমির ক্রয় মূল্য ছিল 17, 90, 416 সিক্কা টাকা। বঙ্গাব্দ 1204-এ ইংরেজি 1797-98 তে, বিজ্ঞাপন দেওয়া হয়েছিল যে, একটি জমি 22, 66, 191 সিক্কা টাকার, জমিটির বিক্রিত মূল্য 22, 74, 076 সিক্কা টাকার ও ক্রয় মূল্য ছিল 21, 47, 580 সিক্কা টাকা। যে জমিদাররা নির্দিষ্ট সময়ের মধ্যে নির্ধারিত খাজনা কোম্পানির সরকারকে দিত পারতো না- তাদের মধ্যে অনেকেই ছিলেন দেশের পুরানো জমিদার পরিবার। যেমন— নদীয়া, রাজশাহী, বিশেন্দুর (বাংলার সব জেলা), ও অন্যদের ক্ষেত্রে, যাদের জমিদারী খণ্ড-বিখণ্ড হয় পরবর্তী বছরগুলিতে, তারা দারিদ্র্যের শিকার হয় ও ধ্বংস হয়ে যাবে জমির বর্ধিত সরকারী রাজস্ব প্রদানের বিষয়টি রক্ষা করতে গেলে। এই ধরনের কিছু সমস্যাবলী রাজস্ব আধিকারিকদের কাছে উপস্থাপিত হয়েছিল।

'পঞ্চম রিপোর্ট' সম্পর্কে কোন বিবৃতিটি সঠিক ?

- (1) পঞ্চম রিপোর্টে অযোধ্যা ও ওড়িশ্যা সম্পর্কিত তথ্যাদি ছিল।
- (2) পঞ্চম রিপোর্ট ছিল ভারতে ব্রিটিশ সামাজিক-ধর্মীয় সংস্কারের ফলাফল।
- (3) পঞ্চম রিপোর্ট ভারতীয় পার্লামেন্টে তুমুল বিতর্কের ভিত্তি হয়ে উঠেছিল।
- (4) পঞ্চম রিপোর্টে জমিদারদের সম্পর্কে মূল্যবান তথ্যাদি ছিল।

Options :

- 212307119363 1
- 212307119366 2
- 212307119367 3
- 212307119368 4

Question Number : 24\* Question Id : 212307119342 Question Type : MCQ Option Shuffling : No Is Question Mandatory : No Calculator : None  
Response Time : N.A Think Time : N.A Minimum Instruction Time : 0

Correct Marks : 5 Wrong Marks : 1

Question Key Details :

Key	Value
Comprehension	Comp1

ફકરો વાંચીને નીચે આપેલા પ્રશ્નોના ઉત્તર આપો :

### પાંચમા અહેવાલમાંથી

જમીનદારોની સ્થિતિ અને જમીનોની હરાજના સંદર્ભમાં પાંચમો અહેવાલ જણાવે છે :

નીચમિત રીતે મહેસુલની આવકની પ્રાપ્તિ કરવામાં આવી ન હતી અને નોંધપાત્ર પ્રમાણમાં જમીનોને સમયાંતરે હરાજ દ્વારા વેચવામાં આવતી હતી. મૂળ વર્ષ 12113 માં 1796-97 ને અનુરૂપ વેચાણ માટે અહેરાત કરાયેલી જમીનમાં સિક્કા રૂપિયા 28, 70, 061 ની જુમ્મા અથવા કર આકારણી, વાસ્તવમાં વેચાયેલી જમીનની હદ સિક્કા રૂપિયા 14, 18, 756 ની જુમ્મા અથવા કર આકારણી અને નાણા સિક્કા રૂપિયા 17, 90, 416. 1204 માં 1797-98 ને અનુરૂપ અહેરાત કરાયેલ જમીન સિક્કા 22, 66, 191 માટે હતી, વેચવામાં આવેલ જથ્થો સિક્કા 22, 74, 076 અને ખરીદીના નાણા સિક્કા 21, 47, 580 હતા. ડિફોલ્ટર્સ માના કેટલાક દેરાના સોંથી જુના પરિવારો પૈકીના હતા, જેમ કે નુદિયાના રાજા રાજેશાય, ખીરાનેપોર (બંગાળના બધા જિલ્લાઓ), ... અને અન્ય, જેમને દરેક આવનારા વર્ષને અંતે, એસ્ટેટના વિભાજનથી તેમને ગરીબી અને વિનાશનો ભય હતો, અને કેટલાક કિસ્સાઓમાં તેમણે મહેસુલ અધિકારીઓને જાહેર અડલતની સંપૂર્ણ સ્કમો જાળવવાના પ્રયાસોમાં પડતી મુશ્કેલીઓની સ્વજાત કરી હતી.

નીચેનામાંથી કયું વિધાન 'પાંચમા અહેવાલ'ની બાબતમાં સાચું છે ?

- (1) પાંચમો અહેવાલ અવધ અને ઓરિસ્સાના જમીનદારો વિશે માહિતી આપે છે.
- (2) પાંચમો અહેવાલ એ ભારતમાં બ્રિટીશ સામાજિક-ધાર્મિક સુધારાઓનું પરિણામ હતો.
- (3) પાંચમો અહેવાલ ભારતની સંસદમાં વિગ્ર અર્ચાનો આધાર બન્યો હતો.
- (4) પાંચમો અહેવાલ જમીનદારો વિશે અમુલ્ય માહિતી ધરાવે છે.

Options :

112807119363 1

112807119364 2

112807119367 3

112807119369 4

Question Number : 247 Question Id : 11280719542 Question Type : MCQ Option Shuffling : No Is Question Mandatory : No Calculator : None Response Time : N.A Think Time : N.A Minimum Instruction Time : 0

Correct Marks : 5 Wrong Marks : 1

Question Key Details :

Key	Value
Comprehension	Comp1

ವಾಕ್ಯ ಪುಂಜವನ್ನು ಓದಿ ಮತ್ತು ಪ್ರಶ್ನೆಗಳಿಗೆ ಉತ್ತರಿಸಿ :

**ಐದನೇ ವರದಿಯಿಂದ**

ಜಮೀನ್ದಾರರು ಮತ್ತು ಜಮೀನುಗಳ ಹರಾಜಿನ ಪರಿಷ್ಕರಣೆಯನ್ನು ಸೂಚಿಸಿ ಐದನೇ ವರದಿ ಹೇಳಿ.

ಆರಾಂಜಿಗಳು ಸರಿಯಾದ ಸಮಯಕ್ಕೆ ವಾಸ್ತವವಾಗಿ ಬರಲಿಲ್ಲ ಮತ್ತು ಜಮೀನು ಆಗಾಗ್ಗೆ ಪರಿಗಣಿಸುವ ಹಾಗೆ ಹರಾಜು ಮಾರಾಟಕ್ಕೆ ತಿಳಿದು ಕೊಂಡಿತು ಸ್ಥಳೀಯ ವರ್ಷ 1203 ರಲ್ಲಿ 1796-97 ಸಮನಾಗಿ, ಮಾರಾಟಕ್ಕಿಟ್ಟು ಜಮೀನಿನ ಜಾಹಿರಾತು ಒಂದು ಜುಮ್ಮ ಅಥವಾ 28,70,061 ರೂಪಾಯಿಗಳ 'ಸಿಕ್ಕ್' ಬರಬಹುದೆಂದು ಗ್ರಹಿಸಲಾಗಿತ್ತು. ಆದರೆ ನಿಜವಾಗಿ ಜಮೀನಿನ ಬೆಲೆ ಒಂದು ಜುಮ್ಮ ಅಥವಾ 14,18,756 ಕ್ಕೆ ನಿರ್ಣಯಕ್ಕೆ ಮಾರಾಟವಾಯಿತು ಮತ್ತು ಕೊಂಡುಕೊಂಡ ಹಣದ ಮೂತ್ರವು 17,90,416 ರೂಪಾಯಿಗಳು 1204 ರಲ್ಲಿ 1797-98 ರ ಜೊತೆ ಸಮನಾಗಿ, ಜಾಹಿರಾತದ ಜಮೀನು 22,66,191 ಸಿಕ್ಕ್ ರೂಪಾಯಿಗಳಿಗೆ, ಮಾರಾಟವಾಗಿದ್ದು 22,74,076 ಸಿಕ್ಕ್ ರೂಪಾಯಿಗಳಿಗೆ ಮತ್ತು ಕೊಂಡುಕೊಂಡ ಹಣ 21,47,580 ಸಿಕ್ಕ್ ರೂಪಾಯಿಗಳು. ಸಾಲ ಮರು ಪಾವತಿಸದಿದ್ದವರಲ್ಲಿ ದೇಶದ ಕೆಲವು ಅತ್ಯಂತ ಹಿರಿಯ ಕುಟುಂಬಗಳಾದ ಸುಡ್ಡಿಯಾದ ರಾಜರುಗಳು ಇದ್ದರು. ರಾಜ ಶಾಯಿ, ಬಿಷನ್‌ಪೋಡ್ (ಬಂಗಾಳದ ಎಲ್ಲಾ ಜಿಲ್ಲೆಗಳು) ಮತ್ತು ಇತರರು ತೋಟಗಳು ಪ್ರತಿ ವರ್ಷ ಕೊನೆ \* ಪೋಗಿ ಅವರಿಗೆ ಬಡತನ ಮತ್ತು ಅವನತಿಯ ಭೀತಿಯನ್ನು ಒಂಟುಮಾಡಿದರು, ಮತ್ತು ಕೆಲವು ಸಂದರ್ಭದಲ್ಲಿ ಸಾರ್ವಜನಿಕರ ನಿರ್ಣಯಗಳ ಪ್ರಮಾಣವನ್ನು ಉಳಿಸಿಕೊಳ್ಳುವ ಪ್ರಯತ್ನದಲ್ಲಿ ಕಂದಾಯ ಅಧಿಕಾರಿಗಳಿಗೆ ಸಂಕಷ್ಟ ಎದುರಾಯಿತು.

ಯಾವ ಹೇಳಿಕೆಯ 'ಐದನೇ ವರದಿ' ಬಗ್ಗೆ ಸರಿಯಾಗಿದೆ ?

- (1) ಐದನೇ ವರದಿಯ ಅವಧಿ ಮತ್ತು ಒರಿಸ್ಸಾ ಜಮೀನ್ದಾರರ ಬಗ್ಗೆನಿ ಮಾಡಿತಿಯನ್ನು ನೀಡಿತು.
- (2) ಐದನೇ ವರದಿಯ ಭಾರತದಲ್ಲಿ ಪ್ರತಿಷ್ಠಿತ ಸಾಮಾಜಿಕ-ಧಾರ್ಮಿಕ ಸುಧಾರಣೆಯ ಫಲದಿಂದಾಯಿತು.
- (3) ಐದನೇ ವರದಿಯ ಭಾರತೀಯ ಸಂಸ್ಕೃತಿಯಲ್ಲಿ ತೀವ್ರ ಚರ್ಚೆಗೆ ಆಧಾರವಾಯಿತು.
- (4) ಐದನೇ ವರದಿಯ ಜಮೀನ್ದಾರ ಬಗ್ಗೆ ಬೆಲೆಕಟ್ಟಲಾಗದ ಮಾಡಿತಿಯನ್ನೊಳಗೊಂಡಿದೆ.

Options :  
212807119363 1  
212807119365 2  
212807119367 3  
212807119368 4

Question Number : 247 Question Id : 21280729642 Question Type : MCQ Option Shuffling : No Is Question Mandatory : No Calculator : None  
Response Time : N.A Think Time : N.A Minimum Instruction Time : 0  
Correct Marks : 5 Wrong Marks : 1

Question Key Details :

Key	Value
Comprehension	Comp1

उत्तरा वाचा आणि प्रश्नांचे उत्तर लिहा :

### पाचव्या अहवालातून

जमिनदारांचो परिस्थिती व जमिनींचा लिलाव याचा संदर्भ देवून पाचव्या अहवालात खालील नोंदी आडळतात :

महसूल नियमितपणे भरला जात नव्हता आणि बऱ्याच जमिनी ठराविक कालांतराने लिलाव करून विकण्यासाठी उपलब्ध करून दिल्या जात होत्या. इ.स. 1796-97 म्हणजे शके 1203 मध्ये विक्रीसाठी उपलब्ध असलेल्या व जाहिरात केलेल्या जमिनींचा 'जुम्मा' किंवा मूल्यांकन होते सिक्का रुपये 28, 70, 061 तर प्रत्यक्षात विकलेल्या जमिनींचा 'जुम्मा' किंवा खरेदी रकमेचे मूल्यांकन होते 14, 18, 756 तर खरेदीची रक्कम होती सिक्का 17, 90, 416 रुपये. इ.स. 1797-98 मध्ये म्हणजे शके 1204 मध्ये विक्रीसाठी उपलब्ध असलेल्या जाहिरात केलेल्या जमिनींचे मूल्य 22, 66, 191 तर विक्रीची रक्कम सिक्का 22, 74, 076 रुपये व खरेदीची रक्कम सिक्का 21, 47, 580 रुपये होती. थकवाकीदारांमध्ये देशातील जुन्या कुटुंबांचा उदाहरणार्थ नुझोयाचे राजे यांचा समावेश होता. राजेशाये, बिरोनपूर (बंगालचे सर्व जिल्हे) ... आणि इतर यांच्याबाबतीत प्रत्येक वर्षाच्या शेवटी त्यांच्या मालमतेचे विभाजन होत होत त्यांच्या डोक्यावर दारिद्र्य आणि न्हास होण्याचा धोका होता. काही ठिकाणी तर महसूला अधिकाऱ्यांना सार्वजनिक मूल्यांकनाची रक्कम कायम राखण्यात अडचणी आल्या.

पाचव्या अहवालाच्या संदर्भात कोणते विधान बरोबर आहे ?

- (1) अवघ आणि ओरिसा येथील जमीनदारांची माहिती पाचव्या अहवालात मिळते.
- (2) ब्रिटिशांच्या भारतातील सामाजिक-धार्मिक सुधारणांचा परिणाम म्हणजे पाचवा अहवाल.
- (3) पाचवा अहवाल भारतीय संसदेत दीर्घ चर्चेचे निमित्त ठरला.
- (4) पाचव्या अहवालात जमिनदारांसंबंधी महत्त्वाची माहिती मिळते.

Options :

- 212807119365 1
- 212807119366 2
- 212807119367 3
- 212807119368 4

Question Number : 24\* Question Id : 21280719842 Question Type : MCQ Option Shuffling : No Is Question Mandatory : No Calculator : None  
Response Time : N/A Think Time : N/A Minimum Instruction Time : 0

Correct Marks : 5 Wrong Marks : 1

Question Key Details :

Key	Value
Comprehension	Comp2

താഴെ നൽകിയിരിക്കുന്ന ഖണ്ഡിക വായിച്ച് അതിനു താഴെയുള്ള ചോദ്യങ്ങൾക്ക് ഉത്തരമെഴുതുക. :

**അഞ്ചാം റിപ്പോർട്ടിൽ നിന്ന്**

സെമിനാർമാരുടെ അവസ്ഥയും ഭൂലേലവുമായി ബന്ധപ്പെട്ട് അഞ്ചാം റിപ്പോർട്ട് ഇങ്ങനെ പറയുന്നു :

വരുമാനം കൃത്യമായി വീതിച്ചു നൽകിയിരുന്നില്ലെന്നും ഭൂമി കൃത്യമായ ഇടവേളകളിൽ വിൽപ്പനയും നടത്താം 1796-97 ലെ കണക്കുകൾ താരതമ്യം ചെയ്താൽ, 1203 ലെ ഇവയുടെ (സ്ഥലത്തിന്റെ) സിക്ക (പണം) 28.70 61 സ്ഥലം വിറ്റു ജു. 14 - 18 756 വാങ്ങിയ സിക വില 17.90.416 ആയിരുന്നു. 1204 തുടർന്ന് 1797 ൽ പരസ്യപ്പെടുത്തിയത് പ്രകാരം സിക്ക. രൂപ 22.66.191 സിക്കയായി വിറ്റ അളവ് 2214. 076 മേടിച്ചത് 2147.580 കടക്കാലായവർ തിക്തവാനും പഴയ കൃടുംബങ്ങളായിരുന്നു. നെടിയ രാജാക്കന്മാരെ പോലെ ബംഗാളിലെ ജില്ലകളായ രാജ്ഷി ബിഷൻപൂർ ഇത്തരത്തിലുള്ള സംഭവവികാസങ്ങൾ നികൃതി പിരിക്കുന്നവർക്ക് പിന്നീട് പ്രശ്നമായി തീർന്നു. അവരുടെ പ്രവർത്തനം കൊണ്ട് പൊതുജനത്തിന്റെ സ്വത്ത് നശിക്കാതെ കാത്തു

അഞ്ചാം റിപ്പോർട്ടുമായി ബന്ധപ്പെട്ട ശരിയായ പ്രസ്താവന ഏത് ?

- (1) അഞ്ചാം റിപ്പോർട്ട് അവധിലെയും ഒറിസയിലെയും ജന്മിമരെ പറ്റി വിവരം തരുന്നു.
- (2) അഞ്ചാം റിപ്പോർട്ട് ബ്രിട്ടീഷുകാർ ഇന്ത്യയിൽ നടപ്പിലാക്കിയ സാമൂഹിക മത നവീകരണമാണ്.
- (3) അഞ്ചാം റിപ്പോർട്ട് ഇന്ത്യൻ പാർലമെന്റിൽ സജീവ ചർച്ചയ്ക്കും വിധേയമായി.
- (4) അഞ്ചാം റിപ്പോർട്ടിൽ ജന്മിമാരെ കുറിച്ചുള്ള അമൂല്യമായ വിവരങ്ങൾ ആണ് ഉണ്ടായിരുന്നത്.

Options :

- 212807119365 1
- 212807119366 2
- 212807119367 3
- 212807119368 4

Question Number : 147 Question Id : 21280719642 Question Type : MCQ Option Shuffling : No Is Question Mandatory : No Calculator : None Response Time : N.A Think Time : N.A Minimum Instruction Time : 0 Correct Marks : 5 Wrong Marks : 1

Question Key Details :

Key	Value
Comprehension	Comp2



ଅନୁଲେଖନୀୟ ପଦ୍ମ ଏବଂ ନିମ୍ନଲିଖିତ ପୁସ୍ତକ ଉଭୟ ବିଅରୁ ।

**ପଞ୍ଚମ ରିପୋର୍ଟରୁ**

ଜନିତାଗମାନଙ୍କର ଅବସ୍ଥା ଏବଂ ଜମି ନିରୀକ୍ଷା ପ୍ରସଙ୍ଗରେ ପଞ୍ଚମ ରିପୋର୍ଟ ଦର୍ଶାଇଥିଲା :

ରାଜସ୍ୱ ଆୟ ପିନ୍ଧି ସମୟରେ ଆବୀକ୍ଷ୍ୟ କରାଯାଇ ନଥିଲା ଏବଂ ସବୁ ପରିମାଣରେ ଜମିଗୁଡ଼ିକ ନିରୀକ୍ଷା କରାଯାଇଥିଲା । 1203 ମସିହାରେ ଏବଂ 1796-97 ମସିହାରେ ମଧ୍ୟ ଯେଉଁ ଜମିଗୁଡ଼ିକ ବିକ୍ରି ହେବୁ ବିକ୍ରୟକ ବିଆଯାଇଥିଲା ଏକ ନୂଆ/ଯାହାକି ଡିଏ/ ଗୁପ୍ତ 28, 70, 061, ଉଚ୍ଚ ହୁଆର ପର୍ଯ୍ୟ ଏକ ଛୁଆ/ 14, 18, 756 ଏବଂ ବିକ୍ରିରୁ ମିଳିଥିବା ମୂଲ୍ୟ ବା ପଇସା ଡିଏ/ 17, 90, 416 । 1204 ଏବଂ 1797-98 ଯେଉଁ ଜମିଗୁଡ଼ିକର ବିକ୍ରୟକ ବିଆଯାଇଥିଲା ଚାନ୍ଦାର ମୂଲ୍ୟ ଡିଏ/ ଗୁପ୍ତ 22, 66, 191 ଯେଉଁ ପରିମାଣର ବିକ୍ରି ହୋଇଥିଲା ଚାନ୍ଦାର ମୂଲ୍ୟ ଡିଏ/ ଗୁପ୍ତ 22, 74, 076 ଏବଂ ବିକ୍ରୟକଥିବା ପଇସା ଡିଏ/ ଗୁପ୍ତ 21, 47, 580 । ବିରୁଦ୍ଧ କରିଥିବା ବ୍ୟକ୍ତିମାନଙ୍କ ମଧ୍ୟରେ ଦେଶର କିଛି ସବୁଠାରୁ ପୁରୁଣା ପରିବାର ଥିଲେ, ସେମାନେ ନୂତନର ରାଜାମାନେ । ଗାଜପୁର, ବିଶେଷପୋର (ବେଙ୍ଗାଳର ସମସ୍ତ ଜିଲ୍ଲା) ଏବଂ ଅନ୍ୟ, ଯେଉଁମାନଙ୍କର ରୁସୁଲି କ୍ରମାବଳରେ ହ୍ରାସ ପାଇଥିଲା । ଯେମାନଙ୍କୁ ଦାରିଦ୍ର୍ୟ ନଷ୍ଟ କରିଦେବା ବୋଲି ଜଣାଯାଇଥିଲା ଏବଂ କିଛି କ୍ଷେତ୍ରରେ ରାଜସ୍ୱ ଆୟ କର୍ମଚାରୀମାନଙ୍କୁ କଳ କର ଆଦାୟ ସୁରକ୍ଷା କରିବାରେ ଅସୁବିଧା ହେଇଥିଲା ।

ନିମ୍ନଲିଖିତ ମଧ୍ୟରୁ ଯେଉଁ ନକଲଟି 'ପଞ୍ଚମ ରିପୋର୍ଟ/ପଥ' ବିଷୟରେ ?

- (1) ପଞ୍ଚମ ପଥଟି ଅପୂର୍ବ ଏବଂ ଓଡ଼ିଶାର ଜମିଦାରଙ୍କ ବିଷୟରେ ସୂଚନା ଦିଏ ।
- (2) ପଞ୍ଚମ ରିପୋର୍ଟ/ପଥଟି କ୍ରିଷକର ଜାଗାରେ ସାମାଜିକ-ଧାର୍ମିକ ଉଚ୍ଚତର ପକ୍ଷ ।
- (3) ଭାରତୀୟ ସଂସଦରେ ପଞ୍ଚମ ରିପୋର୍ଟ ଆଲୋଚନାର ମୂଖ୍ୟ ପ୍ରସଙ୍ଗ ହୋଇଥିଲା ।
- (4) ପଞ୍ଚମ ରିପୋର୍ଟରେ ଜମିଦାରମାନଙ୍କ ବିଷୟରେ ଅମୂଲ୍ୟ ସୂଚନା ରହିଥିଲା ।

- Options :
- 212807119365 1
  - 212807119366 2
  - 212807119367 3
  - 212807119368 4

Question Number : 247 Question Id : 21280719842 Question Type : MCQ Option Shuffling : No Is Question Mandatory : No Calculator : None  
Response Time : N.A Think Time : N.A Minimum Instruction Time : 0  
Correct Marks : 5 Wrong Marks : 1  
Question Key Details :

Key	Value
Comprehension	Comp2

ਪੈਰੋ ਨੂੰ ਪੜ੍ਹੋ ਅਤੇ ਨਿਮਨਲਿਖਤ ਪ੍ਰਸ਼ਨ ਦੇ ਉਤਰ ਦਿਓ।

From the Fifth report

ਜ਼ਿੰਮੀਦਾਰਾਂ ਦੀ ਹਾਲਤ ਅਤੇ ਜ਼ਮੀਨ ਦੀ ਨਿਲਾਮੀ ਨੂੰ ਦਰਸਾਉਂਦੀ, ਪੰਜਵੀਂ ਰਿਪੋਰਟ ਨੇ ਕਿਹਾ :

ਕਰਾਂ ਦੀ ਅਦਾਇਗੀ ਇਮਾਨਦਾਰੀ ਨਾਲ ਨਾ ਕਰਨ ਕਰਕੇ ਜ਼ਮੀਨ ਨੂੰ ਨਿਲਾਮ ਕਰਦੇ ਵੇਚਣ ਲਈ ਵਿਚਾਰਣਯੋਗ ਹੋਣਾ ਪਿਆ। 1203 ਦੇ ਸਾਲ ਦੇ ਮੁਕਾਬਲੇ 1796-97 ਵਿੱਚ, ਜ਼ਮੀਨ ਨੂੰ ਵੇਚਣ ਲਈ 'ਸੁਮਾ' ਦੇ ਆਧਾਰ ਤੇ ਇਸ਼ਤਿਹਾਰ ਦਿੱਤਾ ਗਿਆ। 1204 ਵਿੱਚ ਇਹ ਸਿੱਕਿਆਂ ਦਾ ਅੰਦਾਜ਼ਨ ਲਗਾਇਆ ਗਿਆ ਕਿ 28, 70, 061 ਵਿੱਚ ਵਿਕੇਗੀ ਪਰ ਜ਼ਮੀਨ ਦੀ ਹੱਦ 'ਸੁਮੇ' ਵਿੱਚ ਵਿਕੀ ਇਸਦੀ ਕੀਮਤ 14, 18, 756 ਸੀ ਅਤੇ 'ਸਿੱਕੇ' ਨੂੰ ਖਰੀਦਣ ਦੀ ਕੀਮਤ 17, 90, 416 ਸੀ। 1797-98 ਅਨੁਸਾਰ ਜ਼ਮੀਨ ਦੀ ਇਸ਼ਤਿਹਾਰੀ ਕੀਮਤ 'ਸਿੱਕਾ' ਰੁਪਏ ਵਿੱਚ 22, 66, 191, ਸਿੱਕਿਆਂ ਦੀ ਮਾਤਰਾ 22, 74, 076 ਵਿੱਚ ਵੇਚੇ ਗਏ ਅਤੇ 21, 47, 580 ਰੁਪਏ ਵਿੱਚ 'ਸਿੱਕਾ' ਰੁਪਏ ਵੇਚੇ ਗਏ। ਦੇਸ਼ ਦੇ ਸਭ ਤੋਂ ਪੁਰਾਣੇ ਪਰਿਵਾਰ ਦੋਸ਼ੀਆਂ ਦੀ ਸੂਚੀ ਵਿੱਚ ਸ਼ਾਮਿਲ ਸਨ, ਜਿਹੜੇ ਕਿ ਨੌਦਿਆਂ ਦੇ ਰਾਜੇ ਸਨ। ਰਾਜੇਸ਼ੇਅ, ਬਿਸ਼ਦਪੁਰ (ਬੰਗਾਲ ਦੇ ਸਾਰੇ ਜਿਲੇ) ਅਤੇ ਹੋਰਾਂ ਦੇ ਇਲਾਕੇ ਵੱਡੇ ਨਾਲ ਅਲੱਗ ਕਰ ਦਿੱਤੇ ਗਏ। ਉਨ੍ਹਾਂ ਨੂੰ ਗ਼ਰੀਬੀ ਅਤੇ ਉਜਾੜੇ ਲਈ ਧਮਕਾਇਆ ਗਿਆ। ਕੁਝ ਉਦਾਹਰਨਾਂ ਵਿੱਚ ਕਰ ਅਫ਼ਸਰਾਂ ਦੁਆਰਾ ਕਰ ਇਕੱਤਰ ਕਰਨ ਦੀਆਂ ਮੁਸ਼ਕਲਾਂ ਨੂੰ ਦਰਸਾਇਆ ਗਿਆ ਜਿਹੜੇ ਜਨਤਕ ਮੁਲਾਂਕਣ ਦੀ ਮਾਤਰਾ ਨੂੰ ਘੱਟੋ ਘੱਟ ਸੁਰੱਖਿਅਤ ਰੱਖਣ ਦੇ ਆਪਣੇ ਜਤਨ ਕਰਦੇ ਸੀ।

ਪੰਜਵੀਂ ਰਿਪੋਰਟ ਦੇ ਸਬੰਧ ਵਿੱਚ ਕਿਹੜਾ ਕਥਨ ਠੀਕ ਹੈ?

- (1) ਪੰਜਵੀਂ ਰਿਪੋਰਟ ਅਵਧ ਅਤੇ ਉੜੀਸਾ ਦੇ ਜ਼ਿੰਮੀਦਾਰਾਂ ਦੀ ਜਾਣਕਾਰੀ ਦਿੰਦੀ ਹੈ।
- (2) ਪੰਜਵੀਂ ਰਿਪੋਰਟ ਵਿੱਚ ਅੰਗਰੇਜ਼ਾਂ ਦੁਆਰਾ ਸਮਾਜਕ-ਧਾਰਮਿਕ ਰਿਸ਼ਤਿਆਂ ਦੇ ਸੁਧਾਰ ਬਾਰੇ ਜ਼ਿਕਰ ਹੈ।
- (3) ਪੰਜਵੀਂ ਰਿਪੋਰਟ ਭਾਰਤੀ ਪਾਰਲੀਮੈਂਟ ਵਿੱਚ ਹੋਈ ਤਲਖ਼ ਬਹਿਸ ਦੇ ਆਧਾਰ ਤੇ ਬਣੀ ਸੀ।
- (4) ਪੰਜਵੀਂ ਰਿਪੋਰਟ ਵਿੱਚ ਜ਼ਿੰਮੀਦਾਰਾਂ ਬਾਰੇ ਅਨਮੋਲ ਜਾਣਕਾਰੀ ਸ਼ਾਮਿਲ ਸੀ।

Options :

212307119363-1

212307119365-2

212307119367-3

212307119368-4

Question Number : 247 Question Id : 21230719342 Question Type : MCQ Option Shuffling : No Is Question Mandatory : No Calculator : None  
Response Time : N.A Think Time : N.A Minimum Instruction Time : 0

Correct Marks : 5 Wrong Marks : 1

Question Key Details :

Key	Value
Comprehension	Comp1

கீழ்க்காணும் பத்தியைப் படித்து வினாக்களுக்கு விடையளிக்கவும்.

(ஐந்தாம் அறிக்கையில் இருந்து எடுக்கப்பட்டது)

ஐமீன்தார்களின் நிலைமை மற்றும் நிலங்கள் ஏலம் விடப்பட்டது குறித்து ஐந்தாவது அறிக்கை கூறியதாவது :

காலந்தவறாமல் வருமானம் வசூலிக்கப்பட்டது; நிலங்கள் இயன்ற அளவிற்கு குறிப்பிட்ட கால இடைவெளியில் ஏலம் விடப்பட்டன. சொந்த ஆண்டு 1203 (இந்திய ஆண்டு) அதாவது 1796 - 97 -ல் விற்பனைக்கு அறிவிக்கப்பட்ட நிலத்தின் மீது ஜிம்மா என்ற மதிப்பீடு "சிக்கா" ரூபாய் 28,70,061 சேகரிக்கப்பட்டது; இதில் மதிப்பீடு சிக்கா ரூபாய் 14,18,576 மற்றும் விலைக்கு வாங்கப்பட்ட மதிப்பு சிக்கா ரூபாய் 17,90,416 ஆகும். 1204 -ல், அதாவது 1797-98 -ல் விற்பனைக்கு அறிவிக்கப்பட்ட நிலத்தின் மதிப்பு சிக்கா ரூபாய் 22,66,191; நிலம் விற்கப்பட்டதன் மதிப்பு சிக்கா ரூபாய் 22,74,076. வாங்கப்பட்ட நில மதிப்பு 21,47,580. நூடியா, ராஜஷாயி, போன்ற நாட்டின் மிகப் பழமையான குடும்பங்கள் பணம் செலுத்த தவறியவர்கள் பட்டியலில் இருந்தனர். ராஜஷாயி, பிஷன்பூர் (அனைத்தும் வங்காளத்தின் மாவட்டங்கள்) ஒவ்வொரு ஆண்டின் முடிவிலும் துண்டாடப்பட்ட பெரும் நிலப்பரப்பின் உரிமையாளர்கள் ஏழ்மை மற்றும் அழிவு கொண்டு அச்சுறுத்தப்பட்டனர். சில நேரங்களில் வருவாய் அதிகாரிகளுக்கு, தங்கள் முயற்சியில் பொது மதிப்பீட்டு தொகையை குறையாமல் பார்த்துக் கொள்ள வேண்டிய நிலைக்குத் தள்ளப்பட்டனர்.

ஐந்தாவது அறிக்கை பற்றிய எந்தக் கூற்று சரியானது ?

- (1) அவத மற்றும் ஓடிசாவின் ஐமீன்தார்கள் பற்றி இதில் தகவல்கள் உள்ளன
- (2) இந்தியாவில் பிரிட்டிஷாரின் சமூக-சமய சீர்திருத்தத்தின் விளைவுதான் ஐந்தாவது அறிக்கை
- (3) இந்திய நாடாளுமன்றத்தில் தீவிர விவாதப் பொருளாக ஐந்தாவது அறிக்கை அமைந்தது
- (4) ஐமீன்தார்கள் பற்றிய பல பயனுள்ள தகவல்கள் ஐந்தாவது அறிக்கையில் இடம் பெற்றது

Options :

212807119363 1

212807119366 2

212807119367 3

212807119368 4

Question Number : 147 Question Id : 21280719542 Question Type : MCQ Option Shuffling : No Is Question Mandatory : No Calculator : None

Response Time : N.A Think Time : N.A Minimum Instruction Time : 0

Correct Marks : 5 Wrong Marks : 1

Question Key Details :

Key	Value
Comprehension	Comp2

గద్యాంకం చదివి ప్రశ్నకు సమాధానం ఇవ్వండి :

(ఐదవ రిపోర్టు నుండి)

ఆమెందారులు మరియు భూమి వేలం పరిస్థితులను నూచించి ఐదవ రిపోర్టు ఇలా చెప్పింది :

రాబడి సకాలంలో రావడం లేదు మరియు చాలామట్టకు భూములు వేలం పొటతో అమ్ముడానికి పెట్టబడ్డాయి. 1203 సంవత్సరంలో, 1796-97 కు అనుసంధాన, అమ్ముడానికి ప్రకటించిన నేల అమ్ము లేదా సిక్కియా యొక్క మూల్యాంకనం 28, 70, 061, యదార్థంగా అమ్ముబడిన నేల అమ్ము లేదా మూల్యాంకనం 14, 18, 756, మరియు ఖరీదు ధన మొత్తం సిక్కియా రూపాయలు 17, 90, 416. 1204 లో, 1797-98 కు అనుసంధాన, అమ్ముడానికి ప్రకటించిన నేల అమ్ము లేదా సిక్కియా యొక్క మూల్యాంకనం 22, 66, 191, యదార్థంగా అమ్ముబడిన నేల అమ్ము లేదా మూల్యాంకనం 22, 74, 076 మరియు ఖరీదు ధన మొత్తం సిక్కియా రూపాయలు 21, 47, 580. అవరాధులలో కొందరు సుద్ధియా రాజుల వంటి దేశ పురాతన కుటుంబం వారు, రాజకాయ, వీషహోం (ఐంగాల్ లోని అన్నీ జిల్లాలు) మరియు మిగతావీ, ప్రతి తర్వాతి సంవత్సరం చివర వారి ఎస్టేట్లు విడదీయడం వారికి పేదరికం మరియు వినాశన భయాన్ని మరియు కొన్నింటిలో ప్రజా మూల్యాంక తగ్గిన మొత్తాన్ని సందర్శించడంలో రెవెన్యూ అధికారులకు ఇబ్బందులను కలిగించాయి.

'ఐదవ రిపోర్టు' గురించి సరైన ప్రకటన ఏది ?

- (1) ఐదవ రిపోర్టు అవర్డ్ మరియు ఒరిస్సా ఆమెందారుల గురించి సమాచారం ఇస్తుంది
- (2) ఐదవ రిపోర్టు ఇండియాలో బ్రిటిష్ సామాజిక మత సంస్కరణల ఫలితం
- (3) ఐదవ రిపోర్టు భారత పార్లమెంటులో తీవ్రమైన వాదనలకు ఆధారంగా మారింది
- (4) ఐదవ రిపోర్టు ఆమెందారుల గురించి విలువలేని సమాచారం కలిగి ఉంది

Options :

212907119365-1

212907119366-2

212907119367-3

212907119368-4

Question Number : 24\* Question Id : 21290719842 Question Type : MCQ Option Shuffling : No Is Question Mandatory : No Calculator : None Response Time : N.A Think Time : N.A Minimum Instruction Time : 0

Correct Marks : 5 Wrong Marks : 1

Question Key Details :

Key	Value
Comprehension	Comp1

پانچویں رپورٹ سے لئے گئے اقتباس کو پڑھیں اور سوالات کا جواب دیں۔

زمیندار کی حالت اور زمین کی نیلامی کا حوالہ دیتے ہوئے رپورٹ کہتا ہے:

زمینی منافع پابندی سے نہیں نکالا گیا اور عام طور سے زمینوں کی نیلامی کی گئی وہی سال 1203 بمطابق 97-1796 زمین جو سیل کے لگائی گئی اس کا اندازاً ہم (Jumm) 20,70,061 سکہ روپیہ تھا۔ جبکہ اصل زمین کی فروخت جو ہم (Jumm) پر مشتمل تھی وہ اندازاً 14,10,756 تھا اور جو بیسہ سکا اس کے فروخت کرنے پر لیا وہ تقریباً 17,90,416 تھا۔

1204 بمطابق 90-1797 میں زمین اشتہار کی گئی۔ 22,66,191 کے روپیہ (سکا) کے لئے اس میں 22,74,076 روپے لئے گئے۔

ڈیٹا لٹر میں ملک کی کچھ بڑے پرانے خاندان تھے جیسے کہ راجہ نودلر (Nudeler) راجھیا اور بسین پور، بنگال کے تمام اضلاع اور کچھ علاوہ جن کی ریاستیں الگ الگ شتم ہو گئی اور ہر آنے والے سال فرسبی نے دستک دی۔ اور کسی حد تک دیو پو آئیسر کے لئے مشکل ہو گیا کہ وہ کم نہ ہونے والے عوامی مالیت کی حفاظت کر سکیں۔

پانچویں رپورٹ کے متعلق کون سا بیان درست ہے۔

- (1) پانچویں رپورٹ اودھ اور اڑیسہ کے زمینداروں کے متعلق جانکاری دیتی ہے۔
- (2) پانچویں رپورٹ برطانوی کاہنہ وستان میں سماجی اور مذہبی تبدیلیوں کا نتیجہ تھی۔
- (3) پانچویں رپورٹ ہندوستان کے پارلیمنٹ میں شدید مباحث کی بنیاد بنی۔
- (4) پانچویں رپورٹ میں زمینداروں کے متعلق اشمول جانکاری رکھتی ہے۔

Options :

- 212807119363 : 1
- 212807119366 : 2
- 212807119367 : 3
- 212807119368 : 4

Question Number : 248 Question Id : 21280729843 Question Type : MCQ Option Shuffling : No Is Question Mandatory : No Calculator : None  
Response Time : N.A Think Time : N.A Minimum Instruction Time : 0

Correct Marks : 5 Wrong Marks : 1

Question Key Details :

Key	Value
Comprehension	Comp2

Read the passage and answer the question :

**From the Fifth report**

Referring to the condition of zamindars and the auction of lands, the Fifth Report stated :

The revenue was not realised with punctuality, and lands to a considerable extent were periodically exposed to sale by auction. In the native year 1203, corresponding with 1796-97, the land advertised for sale comprehended a *jumma* or assessment of *sicca* rupees 28, 70, 061, the extent of land actually sold bore a *jumma* or assessment of 14, 18, 756, and the amount of purchase money *sicca* rupees 17, 90, 416. In 1204. Corresponding with 1797-98, the land advertised was for *sicca* rupees 22, 66, 191, the quantity sold was for *sicca* rupees 22, 74, 076 and the purchase money *sicca* rupees 21, 47, 580. Among the defaulters were some of the oldest families of the country, Such were the rajahs of Nuddea, Rajeshaye, Bishenpore (all districts of Bengal), ... and others, the dismemberment of whose estates at the end of each succeeding year, threatened them with poverty and ruin, and in some instances presented difficulties to the revenue officers, in their efforts to preserve undiminished the amount of public assessment.

While writing history, researchers and historians carefully examined the archives of Bengal Zamindars and found \_\_\_\_\_.

- (1) Fifth report is exaggerated on the collapse of zamindari power.
- (2) Fifth report is accurate about the rise in the status of zamindar.
- (3) Fifth report can be used uncritically to write history.
- (4) Fifth report dealt with annexation of North-East.

Options :

212807119569 1

212807119570 2

212807119571 3

212807119572 4

Question Number : 248 Question Id : 21280719843 Question Type : MCQ Option Shuffling : No Is Question Mandatory : No Calculator : None

Response Time : N.A Think Time : N.A Minimum Instruction Time : 0

Correct Marks : 5 Wrong Marks : 1

Question Key Details :

Key	Value
Comprehension	Contp2

निम्नलिखित गद्यांश को पढ़कर नीचे दिये गये प्रश्न का उत्तर दीजिए :

### पाँचवीं रिपोर्ट से उद्धृत

ज़मींदारों की हालत और ज़मोनों की नीलामों के बारे में पाँचवीं रिपोर्ट में कहा गया है :

राजस्व समय पर नहीं वसूल किया जाता था और काफी हद तक ज़मोनों समय-समय पर नीलामों पर बेचने के लिए रखा जाता था। स्थानीय वर्ष 1203, तदनुसार सन् 1796-97 में बिक्री के लिए विज्ञापित ज़मीन की निर्धारित राशि (जुम्मा) 28, 70, 061 सिक्का रु. थी और वह वास्तव में 17, 90, 416 रु. में बेची गई और 14, 18, 756 रु. की राशि जुम्मा के रूप में प्राप्त हुई। स्थानीय संवत् 1204, तदनुसार सन् 1797-98 में 22, 66, 191 सिक्का रु. के लिए ज़मीन विज्ञापित की गई, 22, 74, 076 सिक्का रु. की ज़मीन बेची गई और क्रय राशि 21, 47, 580 सिक्का रु. थी। बाकौदारों में कुछ लोग देश के बहुत पुराने परिवारों में से थे। ये थे : नदिया, राजशाही, विशनपुर (सभी बंगाल के जिले) आदि के राजा...। साल दर साल उनकी जागीरों के टूटने जाने से उनकी हालत बिगड़ गई। उन्हें गरीबी और बर्बादी का सामना करना पड़ा और कुछ मामलों में तो सार्वजनिक निर्धारण की राशि को यथावत बनाए रखने के लिए राजस्व अधिकारियों को भी काफी कठिनाइयाँ उठानी पड़ीं।

इतिहास लिखते समय, शोधार्थी और इतिहासकार, बंगाल के ज़मींदारों के ऐतिहासिक दस्तावेजों का ध्यानपूर्वक परीक्षण किया और पाया कि \_\_\_\_\_।

- (1) पाँचवीं रिपोर्ट में ज़मींदारी शक्ति के पतन को बढ़ा चढ़ा कर प्रस्तुत किया गया है।
- (2) पाँचवीं रिपोर्ट ज़मींदारों की स्थिति के उत्थान का सटीक विवरण देती है।
- (3) पाँचवीं रिपोर्ट को इतिहास लिखने के लिये बिना आलोचना किये प्रयोग किया जा सकता है।
- (4) पाँचवीं रिपोर्ट उत्तर-पूर्व के बलपूर्वक विलय से संबंध रखती है।

Options :

- 212807119369 1
- 212807119370 2
- 212807119371 3
- 212807119372 4

Question Number : 248 Question Id : 21280719843 Question Type : MCQ Option Shuffling : No Is Question Mandatory : No Calculator : None

Response Time : N.A Think Time : N.A Minimum Instruction Time : 0

Correct Marks : 5 Wrong Marks : 1

Question Key Details :

Key	Value
Comprehension	Comp2

তলৰ পাঠ্যংশ আৰু প্ৰশ্নসমূহৰ উত্তৰ দিয়া :

পঞ্চম প্ৰতিবেদনৰ পৰা

জমিদাৰৰ অৱস্থা আৰু মাটি নিলামৰ কথা পঞ্চম প্ৰতিবেদনত উল্লেখ কৰা হৈছে :

ৰাজহ সময়মতে মুকলি কৰা হোৱা নাছিল আৰু মাটিবেচৰ সময়ত সময়ে বিক্ৰীৰ দ্বাৰা নিলামৰ সন্মুখীন হৈছিল। 1203 চনত, 1796-97 ৰ সৈতে সংশ্লিষ্ট মাটিৰ বিক্ৰীৰ বাবে দিয়া বিজ্ঞাপন জুমা চিকা 28, 70, 061 টকা, অকৃততে বিক্ৰী হোৱা মাটিৰ পৰিসৰ (14, 18, 756, আৰু ক্ৰয়ৰ ধৰ্মৰ পৰিমাণ হৈছে 17, 40, 416 টকা। 1204 চনত 1797-98 ৰ লগত সংশ্লিষ্ট কৰা হয়, মাটিৰ বিক্ৰীৰ বাবে বিজ্ঞাপনৰ চিকা 22, 66, 191 টকা বিক্ৰীৰ পৰিমাণ আছিল চিকা 22, 74, 076 টকা আৰু ক্ৰয়ৰ ধৰ্ম আছিল চিকা 21, 47, 580 টকা। তাৰে মাজত কিছুমান ডিফল্টাৰ দেশৰ পূৰ্ণ পৰিমাণৰ পৰা আছিল, মুক্তিৰ বাবে তেনেকুৱাই আছিল। ৰাজেশ্বৰ, বিষ্ণুপুৰ (বেংগলৰ জিলা) আৰু অনা, বাগিচাসমূহৰ বিভাজনে তাৰ পিছৰ প্ৰতিটো বছৰ শেষত দৰিদ্ৰতা আৰু কংসৰ ভাবুকি দিছিল, আৰু কিছুমান ক্ষেত্ৰত ৰাজহ বিঘ্নাসকলৰ বাবে অসুবিধাৰ সৃষ্টি হৈছিল; ৰাজেশ্বৰ মূল্যায়নৰ পৰিমাণ হ্রাস নকৰাকৈ তাক বন্ধা কৰাৰ প্ৰচেষ্টাত।

বুৰঞ্জী লিখা সময়ত, গৱেষক আৰু বুৰঞ্জীবিদসকলে বেংগলৰ জমিদাৰৰ অৰ্কাইভবোৰ ভালদৰে পৰীক্ষা কৰিলে আৰু পালে

- (1) পঞ্চম প্ৰতিবেদনত জমিদাৰৰ ক্ষমতাৰ পতনক অতিৰঞ্জিত কৰা হৈছে।
- (2) পঞ্চম প্ৰতিবেদনে জমিদাৰৰ মৰ্যাদা বৃদ্ধিৰ বিষয়ে সঠিক জনায়।
- (3) পঞ্চম প্ৰতিবেদনক সমালোচনা নকৰাকৈ বুৰঞ্জী লিখাৰ বাবে ল'ব পৰা যায়।
- (4) পঞ্চম প্ৰতিবেদনত উত্তৰ-পূৰ্বক সংলগ্নকৰণৰ বিষয়ে আলোচনা কৰা হৈছিল।

Options :

- 112307119369 1
- 112307119370 2
- 112307119371 3
- 112307119372 4

Question Number : 248 Question Id : 112307119343 Question Type : MCQ Option Shuffling : No Is Question Mandatory : No Calculator : None  
Response Time : N.A Think Time : N.A Minimum Instruction Time : 0  
Correct Marks : 5 Wrong Marks : 1

Question Key Details :

Key	Value
Comprehension	Comp1



অনুচ্ছেদটি পড়ে ও নিচের প্রশ্নের উত্তর দাও :

পঞ্চম রিপোর্ট থেকে

জমিদারদের অবস্থা ও জমির নিলাম সম্পর্কে পঞ্চম রিপোর্টে যা বিধৃত হয়েছিল :

রাজস্ব ব্যবস্থাপনার সংগৃহীত হত না। নির্দিষ্ট সময়ের ব্যবধানে নিলামে জমি বিক্রির পরিস্থিতি তৈরি হত। বঙ্গাব্দ 1203-এ, ইংরেজি 1796-97 খ্রীষ্টাব্দে জমি বিক্রির জন্য বিজ্ঞাপন দেওয়া হয়েছিল। যার 'জুম্মা' বা মূল্য নির্ধারিত হয়েছিল 28, 70, 061 সিক্কা টাকা, জমির প্রকৃতপক্ষে বিক্রিত মূল্য 'জুম্মা' বা নির্ধারিত করা ছিল 14, 18, 756 আর জমির ক্রয় মূল্য ছিল 17, 90, 416 সিক্কা টাকা। বঙ্গাব্দ 1204-এ ইংরেজি 1797-98 তে, বিজ্ঞাপন দেওয়া হয়েছিল যে, একটি জমি 22, 66, 191 সিক্কা টাকায়, জমিটির বিক্রিত মূল্য 22, 74, 076 সিক্কা টাকায় ও ক্রয় মূল্য ছিল 21, 47, 580 সিক্কা টাকা। যে জমিদাররা নির্দিষ্ট সময়ের মধ্যে নির্ধারিত খাজনা কোম্পানির সরকারকে দিত পারতো না- তাদের মধ্যে অনেকেই ছিলেন দেশের পুরানো জমিদার পরিবার। যেমন— নদীয়া, রাজশাহী, বিশেন্দুর (বাংলার সব জেলা), ও অন্যদের ক্ষেত্রে, যাদের জমিদারী খণ্ড-বিখণ্ড হয় পরবর্তী বছরগুলিতে, তারা দারিদ্র্যের শিকার হয় ও ধসে পড়ে যাবে জমির বর্ধিত সরকারী রাজস্ব গুদানের বিষয়টি রক্ষা করতে গেলে। এই ধরনের কিছু সমস্যাবলী রাজস্ব আধিকারিকদের কাছে উপস্থাপিত হয়েছিল।

গবেষক ও ঐতিহাসিকগণ যত্ন সহকারে ইতিহাস রচনা কালে বাংলার জমিদারদের আকর্ষিত পরীক্ষা করেছিলেন এবং খুঁজে পান

- (1) পঞ্চম রিপোর্টে জমিদারি শক্তির পতনকে অতিরঞ্জিত করা হয়েছে।
- (2) পঞ্চম রিপোর্টে জমিদারদের মর্যাদার বৃদ্ধিকে সঠিকভাবে তুলে ধরা হয়েছে।
- (3) পঞ্চম রিপোর্ট ইতিহাস রচনা কালে নির্ধারণ ব্যবহৃত হতে পারে।
- (4) পঞ্চম রিপোর্টে উত্তর-পশ্চিম অঞ্চল দখলের বিবরণটি আলোচিত হয়েছে।

Options :

212307119369-1

212307119370-2

212307119371-3

212307119372-4

Question Number : 248 Question Id : 212307119343 Question Type : MCQ Option Shuffling : No Is Question Mandatory : No Calculator : None  
Response Time : N.A Think Time : N.A Minimum Instruction Time : 0

Correct Marks : 5 Wrong Marks : 1

Question Key Details :

Key	Value
Comprehension	Comp1

ફકરો વાંચીને નીચે આપેલા પ્રશ્નોના ઉત્તર આપો :

### પાંચમા અહેવાલમાંથી

જમીનદારોની સ્થિતિ અને જમીનોની હરાજના સંદર્ભમાં પાંચમો અહેવાલ જણાવે છે :

નીચમિત રીતે મહેસુલની આવકની પ્રાપ્તિ કરવામાં આવી ન હતી અને નીંધપાત્ર પ્રમાણમાં જમીનોને સમયાંતરે હરાજ દ્વારા વેચવામાં આવતી હતી. મૂળ વર્ષ 12113 માં 1796-97 ને અનુરૂપ વેચાણ માટે અહેરાત કરાયેલી જમીનમાં સિક્કા રૂપિયા 28, 70, 061 ની જુમ્મા અથવા કર આકારણી, વાસ્તવમાં વેચાયેલી જમીનની હદ સિક્કા રૂપિયા 14, 18, 756 ની જુમ્મા અથવા કર આકારણી અને નાણા સિક્કા રૂપિયા 17, 90, 416. 1204 માં 1797-98 ને અનુરૂપ અહેરાત કરાયેલ જમીન સિક્કા 22, 66, 191 માટે હતી, વેચવામાં આવેલ જથ્થો સિક્કા 22, 74, 076 અને ખરીદીના નાણા સિક્કા 21, 47, 580 હતા. ડિફોલ્ટર્સ માના કેટલાક દેરાના સોથી જુના પરિવારો પૈકીના હતા, જેમ કે નુદિયાના રાજા રાજેશાય, ખીરાનેપોર (બંગાળના બધા જિલ્લાઓ), ... અને અન્ય, જેમને દરેક આવનારા વર્ષને અંતે, એસ્ટેટના વિભાજનથી તેમને ગરીબી અને વિનાશનો ભય હતો, અને કેટલાક કિસ્સાઓમાં તેમણે મહેસુલ અધિકારીઓને જાહેર આકલનની સંપૂર્ણ રકમો જાળવવાના પ્રયાસોમાં ષડતી મુશ્કેલીઓની રજૂઆત કરી હતી.

ઈતિહાસ લખતી વખતે સંશોધકો અને ઈતિહાસકારોએ બંગાળના જમીનદારોના આર્કાઈવ્સની કાળજીપૂર્વક તપાસ કરી અને શોધી કાઢ્યું.

- (1) પાંચમો અહેવાલ જમીનદારી સત્તાના પતન અંગે અતિશયોક્તિ બહેલા છે.
- (2) પાંચમો અહેવાલ એ વધારા અંગે સચોટ છે.
- (3) ઈતિહાસ લખવા માટે પાંચમા અહેવાલનો ઉપયોગ બિન-વિવેચનાત્મક રીતે કરી શકાય છે.
- (4) પાંચમો અહેવાલ ઉચ્ચપૂર્વના ભેડાણ સાથે સંબંધિત છે.

Options :

- 212807119369 1  
212807119370 2  
212807119371 3  
212807119372 4

Question Number : 248 Question Id : 21280719843 Question Type : MCQ Option Shuffling : No Is Question Mandatory : No Calculator : None

Response Time : N/A Think Time : N/A Minimum Instruction Time : 0

Correct Marks : 5 Wrong Marks : 1

Question Key Details :

Key	Value
Comprehension	Comp2

ವಾಕ್ಯ ಪುಂಜವನ್ನು ಓದಿ ಮತ್ತು ಪ್ರಶ್ನೆಗಳಿಗೆ ಉತ್ತರಿಸಿ :

ಐದನೇ ವರದಿಯಿಂದ

ಜಮೀನ್ದಾರರು ಮತ್ತು ಜಮೀನುಗಳ ಹರಾಜಿನ ಪರಿಷ್ಕರಣೆಯನ್ನು ಸೂಚಿಸಿ ಐದನೇ ವರದಿ ಹೇಳಿ.

ಆದಾಯಗಳು ಸರಿಯಾದ ಸಮಯಕ್ಕೆ ವಾಸ್ತವವಾಗಿ ಬರಲಿಲ್ಲ ಮತ್ತು ಜಮೀನು ಆಗಾಗ್ಗೆ ಪರಿಗಣಿಸುವ ಹಾಗೆ ಹರಾಜು ಮಾರಾಟಕ್ಕೆ ತಿಳಿದು ಕೊಂಡಿತು ಸ್ಥಳೀಯ ವರ್ಷ 1203 ರಲ್ಲಿ 1796-97 ಸಮನಾಗಿ, ಮಾರಾಟಕ್ಕೆಟ್ಟು ಜಮೀನಿನ ಪಾಹಿರಾತು ಒಂದು ಜುಮ್ಮ ಅಥವಾ 28, 70, 061 ರೂಪಾಯಿಗಳ 'ಸಿಕ್ಕ್' ಬರಬಹುದೆಂದು ಗ್ರಹಿಸಲಾಗಿತ್ತು. ಆದರೆ ನಿಜವಾಗಿ ಜಮೀನಿನ ಬೆಲೆ ಒಂದು ಜುಮ್ಮ ಅಥವಾ 14, 18, 756 ಕ್ಕೆ ನಿರ್ಣಯಕ್ಕೆ ಮಾರಾಟವಾಯಿತು ಮತ್ತು ಕೊಂಡುಕೊಂಡ ಹಣದ ಮೂತ್ರವು 17, 90, 416 ರೂಪಾಯಿಗಳು 1204 ರಲ್ಲಿ 1797-98 ರ ಜೊತೆ ಸಮನಾಗಿ, ಪಾಹಿರಾತದ ಜಮೀನು 22, 66, 191 ಸಿಕ್ಕ್ ರೂಪಾಯಿಗಳಿಗೆ, ಮಾರಾಟವಾಗಿದ್ದು 22, 74, 076 ಸಿಕ್ಕ್ ರೂಪಾಯಿಗಳಿಗೆ ಮತ್ತು ಕೊಂಡುಕೊಂಡ ಹಣ 21, 47, 580 ಸಿಕ್ಕ್ ರೂಪಾಯಿಗಳು. ಸಾಲ ಮರು ಪಾವತಿಸದಿದ್ದವರಲ್ಲಿ ದೇಶದ ಕೆಲವು ಅತ್ಯಂತ ಹಿರಿಯ ಕುಟುಂಬಗಳಾದ ಸುಡ್ಡಿಯಾದ ರಾಜರುಗಳು ಇದ್ದರು. ರಾಜ ಶಾಯಿ, ಏಷನ್‌ಪೋರ್ಟ್ (ಬಂಗಾಳದ ಎಲ್ಲಾ ಜಿಲ್ಲೆಗಳು) ಮತ್ತು ಇತರರು ತೋಟಗಳು ಪತ್ತೀ ವರ್ಷ ಕೊನೆ \* ಪೋರಿ ಆವರಿಗೆ ಬಡತನ ಮತ್ತು ಅವನತಿಯ ಛೇತಿಯನ್ನು ಒಂಟುಮಾಡಿದರು, ಮತ್ತು ಕೆಲವು ಸಂಧರ್ಭದಲ್ಲಿ ಸಾರ್ವಜನಿಕರ ನಿರ್ಣಯಗಳ ಪ್ರಮಾಣವನ್ನು ಉಳಿಸಿಕೊಳ್ಳುವ ಪ್ರಯತ್ನದಲ್ಲಿ ಕಂದಾಯ ಅಧಿಕಾರಿಗಳಿಗೆ ಸಂಕಷ್ಟ ಎದುರಾಯಿತು.

ಇತಿಹಾಸವನ್ನು ಬರೆಯುವಾಗ, ಸಂಶೋಧಕರು ಮತ್ತು ಇತಿಹಾಸಕಾರರು ಬಂಗಾಳದ ಜಮೀನ್ದಾರರ ದಾಖಲೆಗಳನ್ನು ಸೂಕ್ಷ್ಮವಾಗಿ ಪರಿಶೀಲಿಸಿ ಮತ್ತು \_\_\_\_\_ ಕಂಡು ಹಿಡಿದರು.

- (1) ಐದನೇ ವರದಿಯ ಜಮೀನ್ದಾರ ಶಕ್ತಿಯ ಜೀಳುವಿಕೆಯ ಮೇಲಿನ ಉತ್ತೇಕ್ಷೆಯಾಗಿದೆ.
- (2) ಐದನೇ ವರದಿಯ ಜಮೀನ್ದಾರ ಅಂತಸ್ತು ಎರಿಕೆ ಬಗ್ಗೆ ನಿಖರವಾಗಿದೆ.
- (3) ಐದನೇ ವರದಿಯನ್ನು ಇತಿಹಾಸ ಬರೆಯಲು ವಿವರ್ಣಮಾಡದೆ ಬಳಸಬಹುದು.
- (4) ಐದನೇ ವರದಿಯ ಈಶಾನ್ಯದ ಸ್ವಾಧೀನ ಪಡಿಸಿಕೊಳ್ಳುವಿಕೆಗೆ ಕುರಿತದ್ದಾಗಿದೆ.

Options :

- 112807119369 1
- 112807119370 2
- 112807119371 3
- 112807119372 4

Question Number : 248 Question Id : 112807119343 Question Type : MCQ Option Shuffling : No Is Question Mandatory : No Calculator : None

Response Time : N.A Think Time : N.A Minimum Instruction Time : 0

Correct Marks : 5 Wrong Marks : 1

Question Key Details :

Key	Value
Comprehension	Comp1

उत्तरा वाचा आणि प्रश्नांचे उत्तर लिहा :

### पाचव्या अहवालातून

जमीनदारांचो परिस्थिती व जमिनींचा लिलाव याचा संदर्भ देवून पाचव्या अहवालात खालील नोंदी आढळतात :

महसूल नियमितपणे भरला जात नव्हता आणि बऱ्याच जमिनी ठराविक कालांतराने लिलाव करून विकण्यासाठी उपलब्ध करून दिल्या जात होत्या. इ.स. 1796-97 म्हणजे शके 1203 मध्ये विक्रीसाठी उपलब्ध असलेल्या व जाहिरात केलेल्या जमिनींचा 'जुम्मा' किंवा मूल्यांकन होते सिक्का रुपये 28, 70, 061 तर प्रत्यक्षात विकलेल्या जमिनींचा 'जुम्मा' किंवा खरेदी रकमेचे मूल्यांकन होते 14, 18, 756 तर खरेदीची रक्कम होती सिक्का 17, 90, 416 रुपये. इ.स. 1797-98 मध्ये म्हणजे शके 1204 मध्ये विक्रीसाठी उपलब्ध असलेल्या जाहिरात केलेल्या जमिनींचे मूल्य 22, 66, 191 तर विक्रीची रक्कम सिक्का 22, 74, 076 रुपये व खरेदीची रक्कम सिक्का 21, 47, 580 रुपये होती. थकबाकीदारांमध्ये देशालीत जुन्या कुटुंबांचा उदाहरणार्थ नुझोयाचे राजे यांचा समावेश होता. राजेशाये, विशेषपूर (बंगालचे सर्व जिल्हे) ... आणि इतर यांच्याबाबत प्रत्येक वर्षाच्या शेवटी त्यांच्या मालमतेचे विभाजन होत होत त्यांच्या डोक्यावर दारिद्र्य आणि न्हास होण्याचा धोका होता. काही ठिकाणी तर महसूला अधिकाऱ्यांना सार्वजनिक मूल्यांकनाची रक्कम कायम राखण्यात अडचणी आल्या.

इतिहास लेखन करताना संशोधकांनी आणि इतिहासकारांनी बंगालमधील जमीनदारांच्या संबंधीचे अभिलेख काळजीपूर्वक तपासले आणि त्यांना आढळून आले की -

- (1) पाचवा अहवाल जमीनदारी व्यवस्थेच्या न्हासाचे अतिशयोक्त वर्णन आहे.
- (2) जमीनदारांचा उदय आणि स्थान याबाबत पाचवा अहवाल अचूक आहे.
- (3) इतिहास लिहिण्यासाठी पाचवा अहवाल कोणतीही चिकित्सा न करता वापरता येईल.
- (4) पाचव्या अहवालात ईशान्येकडील राने जिंकून घेतल्या संबंधी माहिती आहे.

Options :

- 1 212807119369
- 2 212807119370
- 3 212807119371
- 4 212807119372

Question Number : 248 Question Id : 21280729843 Question Type : MCQ Option Shuffling : No Is Question Mandatory : No Calculator : None Response Time : N.A Think Time : N.A Minimum Instruction Time : 0

Correct Marks : 5 Wrong Marks : 1

Question Key Details :

Key	Value
Comprehension	Comp2

താഴെ നൽകിയിരിക്കുന്ന ഖണ്ഡിക വായിച്ച് അതിനു താഴെയുള്ള ചോദ്യങ്ങൾക്ക് ഉത്തരമെഴുതുക. :

**അഞ്ചാം റിപ്പോർട്ടിൽ നിന്ന്**

സെമിനാർമാരുടെ അവസ്ഥയും ഭൂലേലവുമായി ബന്ധപ്പെട്ട് അഞ്ചാം റിപ്പോർട്ട് ഇങ്ങനെ പറയുന്നു :

വരുമാനം കൃത്യമായി വീതിച്ചു നൽകിയിരുന്നില്ലെന്നും ഭൂമി കൃത്യമായ ഇടവേളകളിൽ വിൽപ്പനയും നടത്താം 1796-97 ലെ കണക്കുകൾ താരതമ്യം ചെയ്താൽ, 1203 ലെ ഇവയുടെ (സ്ഥലത്തിന്റെ) സിക്ക (പണം) 28.70 61 സ്ഥലം വിറ്റു ജു. 14 - 18 756 വാങ്ങിയ സിക വില 17.90.416 ആയിരുന്നു. 1204 തുടർന്ന് 1797 ൽ പരസ്യപ്പെടുത്തിയത് പ്രകാരം സിക്ക. രൂപ 22.66.191 സിക്കയായി വിറ്റു അളവ് 2214. 076 മേടിച്ചത് 2147.580 കടക്കാരായവർ തിക്കവാറും പഴയ കൂട്ടംബങ്ങളായിരുന്നു. നെടിയ രാജാക്കന്മാരെ പോലെ ബംഗാളിലെ ജില്ലകളായ രാജ്ഷി ബിഷൻപൂർ ഇത്തരത്തിലുള്ള സംഭവവികാസങ്ങൾ നികൃതി പിരിക്കുന്നവർക്ക് പിന്നീട് പ്രശ്നമായി തീർന്നു. അവരുടെ പ്രവർത്തനം കൊണ്ട് പൊതുജനത്തിന്റെ സ്വത്ത് നശിക്കാതെ കാത്തു

ചരിത്രം രചിക്കുവ ഗവേഷകരും ചരിത്രകാരന്മാരും ബംഗാളിലെ ജന്മിമാരുടെ ചരിത്ര രേഖകൾ പരിശോധിച്ച് \_\_\_\_\_ കണ്ടെത്തി.

- (1) അഞ്ചാം റിപ്പോർട്ട് ജന്മി അധികാര തകർച്ചയുടെ അതിഭാവുകയും നിറഞ്ഞതായിരുന്നു.
- (2) അഞ്ചാം റിപ്പോർട്ട് ജന്മിത്ത വളർച്ചയുടെ കൃത്യമായ കാര്യമായിരുന്നു.
- (3) അഞ്ചാം റിപ്പോർട്ട് വിമർശനമില്ലാതെ ചരിത്ര രചനയ്ക്ക് ഉപയോഗപ്പെടുത്താം.
- (4) അഞ്ചാം റിപ്പോർട്ട് നോർത്ത് ഈസ്റ്റ് പ്രദേശങ്ങളെ കൂട്ടിച്ചേർക്കുന്നതുമായി ബന്ധപ്പെട്ടതാകുന്നു.

- Options :
- 212807119369 1
  - 212807119370 2
  - 212807119371 3
  - 212807119372 4

Question Number : 248 Question Id : 21280719843 Question Type : MCQ Option Shuffling : No Is Question Mandatory : No Calculator : None  
 Response Time : N.A Think Time : N.A Minimum Instruction Time : 0  
 Correct Marks : 5 Wrong Marks : 1  
 Question Key Details :

Key	Value
Comprehension	Comp2

ଅନୁଲେଖନିତ୍ ପଦ୍ମ ସଦ୍ୟ ନିମ୍ନଲିଖିତ ପୁସ୍ତକ ଉପରେ ବିଅରୁ ।

**ପଞ୍ଚମ ରିପୋର୍ଟରୁ**

ଜନିତାରମାମକର ଅବସ୍ଥା ଏବଂ ଜମି ନିରାମ ପ୍ରସଙ୍ଗରେ ପଞ୍ଚମ ରିପୋର୍ଟ ଦର୍ଶାଇଥିଲା :

ରାଜସ୍ୱ ଆୟ ପିତ୍ ସମୟରେ ଆବୀୟ କରାଯାଇ ନଥିଲା ଏବଂ ତତ୍ତ୍ୱ ପରିମାଣରେ ଜମିଗୁଡ଼ିକ ନିରାମ କରାଯାଇଥିଲା । 1203 ମସିହାରେ ଏବଂ 1796-97 ମସିହାରେ ମଧ୍ୟ ଯେଉଁ ଜମିଗୁଡ଼ିକ ବିକ୍ରି ହେବୁ ବିଜ୍ଞାପନ ବିଆଯାଇଥିଲା ଏକ ନୂଆ/ସାହାଜି ଟିକ୍ସ ଗୁପିକ 28, 70, 061, ଇତ୍ ଆଦି ପର୍ଯ୍ୟ ଏକ ଛୁଆ/ 14, 18, 756 ଏବଂ ବିକ୍ରିରୁ ମିଳିଥିବା ମୂଲ୍ୟ ବା ପରସା ଟିକ୍ସ/ 17, 90, 416 । 1204 ଏବଂ 1797-98 ଯେଉଁ ଜମିଗୁଡ଼ିକର ବିଜ୍ଞାପନ ବିଆଯାଇଥିଲା ତାହାର ମୂଲ୍ୟ ଟିକ୍ସ/ ଗୁପିକ 22, 66, 191 ଯେଉଁ ପରିମାଣର ବିକ୍ରି ହୋଇଥିଲା ତାହାର ମୂଲ୍ୟ ଟିକ୍ସ/ ଗୁପିକ 22, 74, 076 ଏବଂ କିଣାଯାଇଥିବା ପରସା ଟିକ୍ସ/ ଗୁପିକ, 21, 47, 580 । ବିରୁଦ୍ଧ କରିଥିବା ବ୍ୟକ୍ତିମାନଙ୍କ ମଧ୍ୟରେ ଦେଶର କିଛି ସବୁଠାରୁ ପୁରୁଣା ପରିବାର ଥିଲେ, ସେମାନେ ନୂତନତର ରାଜାମାନେ । ରାଜକ୍ଷୟ, ବିଶେଷପୋର (ବେଙ୍ଗଲର ସମସ୍ତ ଜିଲ୍ଲା) ଏବଂ ଅନ୍ୟ, ଯେଉଁମାନଙ୍କର ଗୁରୁତ୍ୱ ଛୁମ୍ବକରେ ହ୍ରାସ ପାଇଥିଲା । ସେମାନଙ୍କୁ ଦାରିଦ୍ର୍ୟ ନଷ୍ଟ କରିଦେବା ବୋଲି ଚିନ୍ତାଯାଇଥିଲା ଏବଂ କିଛି କ୍ଷେତ୍ରରେ ତାଙ୍କୁ ଆୟ କର୍ମଚାରୀମାନଙ୍କୁ କଳ କର ଆଦାୟ ସୁରକ୍ଷା କରିବାରେ ଅସୁବିଧା ହେଇଥିଲା ।

ଇତିହାସ ଲେଖକ ସମୟରେ ସଦେଶନ ଏବଂ ଐତିହାସିକମାନେ ନିଜିତ୍ ଭାବରେ ଦେଖାଇ ଜନିତାରମାମକର ଐତିହାସିକ ଦଳିଲ ପରୀକ୍ଷା କରୁଥିଲେ ଏବଂ ପାଇଥିଲେ \_\_\_\_\_ ।

- (1) ପଞ୍ଚମ ବ୍ୟାପି ଜନିତାରି ପ୍ରଥମ ପଞ୍ଚମ ଦିଶକରେ ଅତିରଞ୍ଜିତ କରି ପରିବେଷଣ କରିଥିଲା ।
- (2) ଜନିତାରମାମକର ପ୍ରଥମ ଦୁଇ ଦିଶକରେ ସଠିକ୍ ବ୍ୟାପ ପଞ୍ଚମ ଚ୍ୟାରେ ବିଆଯାଇଥିଲା ।
- (3) ପଞ୍ଚମ ରିପୋର୍ଟ/ଚ୍ୟାକୁ ସମାଲୋଚନା ନକରି ଇତିହାସ ଲେଖାଯାଇ ପାରିବ ।
- (4) ପଞ୍ଚମ ରିପୋର୍ଟଟି ଉତ୍ତର ପୂର୍ବ ଭାରତର ଦଳିଲରେ ପରେ ସାମିଲ କରାଯାଇଥିବା ଅଂଶ ଦିଶକରେ ସୁତାଏ ।

Options :  
 112807119366 1  
 112807119370 2  
 112807119371 3  
 112807119372 4

Question Number : 248 Question Id : 11280719843 Question Type : MCQ Option Shuffling : No Is Question Mandatory : No Calculator : None  
 Response Time : N.A Think Time : N.A Minimum Instruction Time : 0  
 Correct Marks : 5 Wrong Marks : 1  
 Question Key Details :

Key	Value
Comprehension	Comp2

ਪੈਰੋ ਨੂੰ ਪੜ੍ਹੋ ਅਤੇ ਨਿਮਨਲਿਖਤ ਪ੍ਰਸ਼ਨ ਦੇ ਉਤਰ ਦਿਓ।

From the Fifth report

ਜ਼ਿੰਮੀਦਾਰਾਂ ਦੀ ਹਾਲਤ ਅਤੇ ਜ਼ਮੀਨ ਦੀ ਨਿਲਾਮੀ ਨੂੰ ਦਰਸਾਉਂਦੀ, ਪੰਜਵੀਂ ਰਿਪੋਰਟ ਨੇ ਕਿਹਾ :

ਕਰਾਂ ਦੀ ਅਦਾਇਗੀ ਇਮਾਨਦਾਰੀ ਨਾਲ ਨਾ ਕਰਨ ਕਰਕੇ ਜ਼ਮੀਨ ਨੂੰ ਨਿਲਾਮ ਕਰਦੇ ਵੇਚਣ ਲਈ ਵਿਚਾਰਣਯੋਗ ਹੋਣਾ ਪਿਆ। 1203 ਦੇ ਸਾਲ ਦੇ ਮੁਕਾਬਲੇ 1796-97 ਵਿਚ, ਜ਼ਮੀਨ ਨੂੰ ਵੇਚਣ ਲਈ 'ਜ਼ਮੀ' ਦੇ ਆਧਾਰ ਤੇ ਇਸ਼ਤਿਹਾਰ ਦਿਤਾ ਗਿਆ। 1204 ਵਿਚ ਇਹ ਸਿੱਕਿਆਂ ਦਾ ਅੰਦਾਜ਼ਨ ਲਗਾਇਆ ਗਿਆ ਕਿ 28, 70, 061 ਵਿਚ ਵਿਕੇਗੀ ਪਰ ਜ਼ਮੀਨ ਦੀ ਹੱਦ 'ਜ਼ਮੀ' ਵਿਚ ਵਿਕੀ ਇਸਦੀ ਕੀਮਤ 14, 18, 756 ਸੀ ਅਤੇ 'ਸਿੱਕੇ' ਨੂੰ ਖਰੀਦਣ ਦੀ ਕੀਮਤ 17, 90, 416 ਸੀ। 1797-98 ਅਨੁਸਾਰ ਜ਼ਮੀਨ ਦੀ ਇਸ਼ਤਿਹਾਰੀ ਕੀਮਤ 'ਸਿੱਕਾ' ਰੁਪਏ ਵਿਚ 22, 66, 191, ਸਿੱਕਿਆਂ ਦੀ ਮਾਤਰਾ 22, 74, 076 ਵਿੱਚ ਵੇਚੇ ਗਏ ਅਤੇ 21, 47, 580 ਰੁਪਏ ਵਿਚ 'ਸਿੱਕਾ' ਰੁਪਏ ਵੇਚੇ ਗਏ। ਦੇਸ਼ ਦੇ ਸਭ ਤੋਂ ਪੁਰਾਣੇ ਪਰਿਵਾਰ ਦੇਸ਼ੀਆਂ ਦੀ ਸੂਚੀ ਵਿਚ ਸ਼ਾਮਲ ਸਨ, ਜਿਹੜੇ ਕਿ ਨੌਦਿਆਂ ਦੇ ਰਾਜੇ ਸਨ। ਰਾਜੇਸ਼ੇਅ, ਬਿਸ਼ਦਪੁਰ (ਬੰਗਾਲ ਦੇ ਸਾਰੇ ਜਿਲੇ) ਅਤੇ ਹੋਰਾਂ ਦੇ ਇਲਾਕੇ ਵੰਡ ਨਾਲ ਅਲੱਗ ਕਰ ਦਿੱਤੇ ਗਏ। ਉਨ੍ਹਾਂ ਨੂੰ ਗ਼ਰੀਬੀ ਅਤੇ ਉਜਾੜੇ ਲਈ ਧਮਕਾਇਆ ਗਿਆ। ਕੁਝ ਉਦਾਹਰਨਾਂ ਵਿਚ ਕਰ ਅਫ਼ਸਰਾਂ ਦੁਆਰਾ ਕਰ ਇਕੱਤਰ ਕਰਨ ਦੀਆਂ ਮੁਸ਼ਕਲਾਂ ਨੂੰ ਦਰਸਾਇਆ ਗਿਆ ਜਿਹੜੇ ਜਨਤਕ ਮੁਲਾਂਕਣ ਦੀ ਮਾਤਰਾ ਨੂੰ ਘੱਟੋ ਘੱਟ ਸੁਰੱਖਿਅਤ ਰੱਖਣ ਦੇ ਆਪਣੇ ਜਤਨ ਕਰਦੇ ਸੀ।

ਇਤਿਹਾਸ ਲਿਖਦੇ ਸਮੇਂ, ਬੰਸਕਾਰਾਂ ਅਤੇ ਇਤਿਹਾਸਕਾਰਾਂ ਨੇ ਬਹੁਤ ਧਿਆਨ ਨਾਲ ਬੰਗਾਲ ਦੇ ਜ਼ਿੰਮੀਦਾਰ ਪੁਰਾਲੇਖਾਂ ਨੂੰ ਧਿਆਨ ਨਾਲ ਵੇਖਿਆ ਅਤੇ ਲੱਭਿਆ ਕਿ :-

- (1) ਪੰਜਵੀਂ ਰਿਪੋਰਟ ਜ਼ਿੰਮੀਦਾਰੀ ਦੀ ਸ਼ਕਤੀ ਨੂੰ ਖਿੰਡਾਉਂਦੀ ਹੈ।
- (2) ਪੰਜਵੀਂ ਰਿਪੋਰਟ ਜ਼ਿੰਮੀਦਾਰਾਂ ਦੇ ਵਧ ਰਹੇ ਰੁਤਬੇ ਨੂੰ ਸਹੀ ਠਹਿਰਾਉਂਦੀ ਹੈ।
- (3) ਇਤਿਹਾਸ ਲਿਖਣ ਲਈ ਪੰਜਵੀਂ ਰਿਪੋਰਟ ਨੂੰ ਆਲੋਚਨਾਤਮਕ ਤੌਰ ਤੇ ਵਰਤਿਆ ਜਾ ਸਕਦਾ ਹੈ।
- (4) ਪੰਜਵੀਂ ਰਿਪੋਰਟ ਉੱਤਰ-ਪੂਰਬ ਦੇ ਮਿਲਾਪ ਨਾਲ ਸਬੰਧ ਰੱਖਦੀ ਹੈ।

Options :

212807119369-1

212807119370-2

212807119371-3

212807119372-4

Question Number : 245 Question Id : 21280719543 Question Type : MCQ Option Shuffling : No Is Question Mandatory : No Calculator : None Response Time : N.A Think Time : N.A Minimum Instruction Time : 0

Correct Marks : 5 Wrong Marks : 1

Question Key Details :

Key	Value
Comprehension	Comp1

கீழ்க்காணும் பத்தியைப் படித்து வினாக்களுக்கு விடையளிக்கவும்.

(ஐந்தாம் அறிக்கையில் இருந்து எடுக்கப்பட்டது)

ஐயீன்தார்களின் நிலைமை மற்றும் நிலங்கள் ஏலம் விடப்பட்டது குறித்து ஐந்தாவது அறிக்கை கூறியதாவது :

காலந்தவறாமல் வருமானம் வசூலிக்கப்பட்டது; நிலங்கள் இயன்ற அளவிற்கு குறிப்பிட்ட கால இடைவெளியில் ஏலம் விடப்பட்டன. சொந்த ஆண்டு 1203 (இந்திய ஆண்டு) அதாவது 1796 - 97 -ல் விற்பனைக்கு அறிவிக்கப்பட்ட நிலத்தின் மீது ஜிம்மா என்ற மதிப்பீடு "சிக்கா" ரூபாய் 28,70,061 சேகரிக்கப்பட்டது; இதில் மதிப்பீடு சிக்கா ரூபாய் 14,18,576 மற்றும் விலைக்கு வாங்கப்பட்ட மதிப்பு சிக்கா ரூபாய் 17,90,416 ஆகும். 1204 -ல், அதாவது 1797-98 -ல் விற்பனைக்கு அறிவிக்கப்பட்ட நிலத்தின் மதிப்பு சிக்கா ரூபாய் 22,66,191; நிலம் விற்கப்பட்டதன் மதிப்பு சிக்கா ரூபாய் 22,74,076. வாங்கப்பட்ட நில மதிப்பு 21,47,580. நூடியா, ராஜஷாயி, போன்ற நாட்டின் மிகப் பழமையான குடும்பங்கள் பணம் செலுத்த தவறியவர்கள் பட்டியலில் இருந்தனர். ராஜஷாயி, பிஷன்பூர் (அனைத்தும் வங்காளத்தின் மாவட்டங்கள்) ஒவ்வொரு ஆண்டின் முடிவிலும் துண்டாடப்பட்ட பெரும் நிலப்பரப்பின் உரிமையாளர்கள் ஏழ்மை மற்றும் அழிவு கொண்டு அச்சுறுத்தப்பட்டனர். சில நேரங்களில் வருவாய் அதிகாரிகளுக்கு, தங்கள் முயற்சியில் பொது மதிப்பீட்டு தொகையை குறையாமல் பார்த்துக் கொள்ள வேண்டிய நிலைக்குத் தள்ளப்பட்டனர்.

வரலாற்றை எழுதும் போது ஆராய்ச்சியாளர்களும், வரலாற்று ஆசிரியர்களும் வங்காள ஐயீன்தார்களை பற்றிய ஆவணங்களை கவனமாக ஆராய்ந்தனர். அவர்கள் இதனை கண்டுபிடித்தனர் \_\_\_\_\_.

- (1) ஐயீன்தார்களின் அதிகாரம் வீழ்ந்ததை, ஐந்தாவது அறிக்கை மிகக் கவனித்தியது
- (2) ஐயீன்தார்களின் அந்தஸ்து உயர்வு குறித்து ஐந்தாவது அறிக்கை மிகச் சரியாக கூறுகிறது
- (3) வரலாற்றை எழுதுவதில், ஐந்தாவது அறிக்கையை விமர்சனமின்றி பயன்படுத்தலாம்
- (4) ஐந்தாவது அறிக்கை வட-கிழக்கு பகுதியை நாட்டுடன் இணைத்தது குறித்து கூறுகிறது

Options :

212907119369 1

212907119370 2

212907119371 3

212907119372 4

Question Number : 245 Question Id : 21290719343 Question Type : MCQ Option Shuffling : No Is Question Mandatory : No Calculator : None

Response Time : N.A Think Time : N.A Minimum Instruction Time : 0

Correct Marks : 5 Wrong Marks : 1

Question Key Details :

Key	Value
Comprehension	Comp1



గద్యాంశం చదివి ప్రశ్నకు సమాధానం ఇవ్వండి :

(బదవ రిపోర్టు నుండి)

జమీందారులు మరియు భూమి వేలం పరిస్థితులను సూచించి బదవ రిపోర్టు ఇలా చెప్పింది :

రాబడి సకాలంలో రావడం లేదు మరియు చాలామట్టకు భూములు వేలం పొటతో అమ్ముడానికి పెట్టబడ్డాయి. 1203 సంవత్సరంలో, 1796-97 కు అనుసంధాన, అమ్ముడానికి ప్రకటించిన నేల జమ్మి లేదా సిక్కియోక్కు మూల్యాంకనం 28, 70, 061, యదార్థంగా అమ్ముబడిన నేల జమ్మి లేదా మూల్యాంకనం 14, 18, 756, మరియు ఖరీదు ధన మొత్తం సిక్కి రూపాయలు 17, 90, 416. 1204 లో, 1797-98 కు అనుసంధాన, అమ్ముడానికి ప్రకటించిన నేల జమ్మి లేదా సిక్కియోక్కు మూల్యాంకనం 22, 66, 191, యదార్థంగా అమ్ముబడిన నేల జమ్మి లేదా మూల్యాంకనం 22, 74, 076 మరియు ఖరీదు ధన మొత్తం సిక్కి రూపాయలు 21, 47, 580. అవరాధులలో కొందరు సుద్దీయా రాజుల వంటి దేశ పురాతన కుటుంబం వారు, రాజకాయే, పీషహాం (బెంగాల్ లోని అన్నీ జిల్లాలు) మరియు మిగతావి, ప్రతి తర్వాతి సంవత్సరం చివర వారి ఎస్టేట్లు విడదీయడం వారికి పేదరికం మరియు వినాశన భయాన్ని మరియు కొన్నింటిలో ప్రజా మూల్యాంక తగ్గిన మొత్తాన్ని సంరక్షించడంలో రెవెన్యూ అధికారులకు ఇబ్బందులను కలిగించాయి.

చరిత్రను వ్రాసేటప్పుడు, పరిశోధకులు మరియు చరిత్రధారులు బెంగాల్ జమీందారుల దస్తావీజులను జాగ్రత్తగా పరిశీలించి \_\_\_\_\_ ను కనుగొన్నారు.

- (1) బదవ రిపోర్టు జమీందారుల అధికార భంగపాటును హెచ్చుగా చెప్పింది
- (2) బదవ రిపోర్టు జమీందారుల స్థాయిలో వృద్ధిని సరిగ్గా చెప్పింది
- (3) బదవ రిపోర్టు చరిత్ర సులువుగా వ్రాయడానికి ఉపయోగిస్తారు
- (4) బదవ రిపోర్టు ఈశాన్య రేరికను గురించి

Options :

- 212807119369-1
- 212807119370-2
- 212807119371-3
- 212807119372-4

Question Number : 248 Question Id : 21280719843 Question Type : MCQ Option Shuffling : No Is Question Mandatory : No Calculator : None

Response Time : N.A Think Time : N.A Minimum Instruction Time : 0

Correct Marks : 5 Wrong Marks : 1

Question Key Details :

Key	Value
Comprehension	Comp2



Read the passage and answer the question :

**From the Fifth report**

Referring to the condition of zamindars and the auction of lands, the Fifth Report stated :

The revenue was not realised with punctuality, and lands to a considerable extent were periodically exposed to sale by auction. In the native year 1203, corresponding with 1796-97, the land advertised for sale comprehended a *jumma* or assessment of *sicca* rupees 28, 70, 061, the extent of land actually sold bore a *jumma* or assessment of 14, 18, 756, and the amount of purchase money *sicca* rupees 17, 90, 416. In 1204. Corresponding with 1797-98, the land advertised was for *sicca* rupees 22, 66, 191, the quantity sold was for *sicca* rupees 22, 74, 076 and the purchase money *sicca* rupees 21, 47, 580. Among the defaulters were some of the oldest families of the country, Such were the rajahs of Nuddea, Rajeshaye, Bishenpore (all districts of Bengal), ... and others, the dismemberment of whose estates at the end of each succeeding year, threatened them with poverty and ruin, and in some instances presented difficulties to the revenue officers, in their efforts to preserve undiminished the amount of public assessment.

'The Fifth Report' was a series of reports on administrative records which was \_\_\_\_\_.

- (1) Not concerned with English East India Company.
- (2) Officially discussed among Indian people.
- (3) Debated in British Parliament.
- (4) Discussed between the British officers and zamindars.

Options :

212307119373.1

212307119374.2

212307119375.3

212307119376.4

Question Number : 249 Question Id : 21230719344 Question Type : MCQ Option Shuffling : No Is Question Mandatory : No Calculator : None  
Response Time : N.A Think Time : N.A Minimum Instruction Time : 0

Correct Marks : 5 Wrong Marks : 1

Question Key Details :

Key	Value
Comprehension	Comp2

निम्नलिखित गद्यांश को पढ़कर नीचे दिये गये प्रश्न का उत्तर दीजिए :

### पाँचवीं रिपोर्ट से उद्धृत

ज़मींदारों की हालत और ज़मीनों की नीलामों के बारे में पाँचवीं रिपोर्ट में कहा गया है :

राजस्व समय पर नहीं वसूल किया जाता था और काफी हद तक ज़मीनों समय-समय पर नीलामों पर बेचने के लिए रखी जाती थीं। स्थानीय वर्ष 1203, तदनुसार सन् 1796-97 में चिक्ली के लिए विज्ञापित ज़मीन की निर्धारित राशि (जुम्मा) 28, 70, 061 सिक्का रु. थी और वह वास्तव में 17, 90, 416 रु. में बेची गई और 14, 18, 756 रु. की राशि जुम्मा के रूप में प्राप्त हुई। स्थानीय संवत् 1204, तदनुसार सन् 1797-98 में 22, 66, 191 सिक्का रु. के लिए ज़मीन विज्ञापित की गई, 22, 74, 076 सिक्का रु. की ज़मीन बेची गई और क्रय राशि 21, 47, 580 सिक्का रु. थी। बाक़ीदारों में कुछ लोग देश के बहुत पुराने परिवारों में से थे। ये थे : नदिया, राजशाही, विशनपुर (सभी बंगाल के ज़िले) आदि के राजा...। साल दर साल उनकी जागीरों के टूटने जाने से उनकी हालत बिगड़ गई। उन्हें गरीबी और अर्बादी का सामना करना पड़ा और कुछ मामलों में तो सार्वजनिक निर्धारण की राशि को सथावत बनाए रखने के लिए राजस्व अधिकारियों को भी काफी कठिनाइयों उठानी पड़ीं।

'पाँचवीं रिपोर्ट' प्रशासनिक दस्तावेज़ों के संबंध में रिपोर्ट की श्रृंखला है जो \_\_\_\_\_ पर थी।

- (1) इंग्लिश ईस्ट इंडिया कंपनी से संबंध नहीं
- (2) भारतीय जनता से अधिकारिक रूप से विमर्श
- (3) ब्रिटिश संसद में वाद विवाद
- (4) अंग्रेज़ अधिकारियों और ज़मींदारों में बातचीत

Options :

212807119373 1

212807119374 2

212807119375 3

212807119376 4

Question Number : 249 Question Id : 21280719844 Question Type : MCQ Option Shuffling : No Is Question Mandatory : No Calculator : None

Response Time : N.A Think Time : N.A Minimum Instruction Time : 0

Correct Marks : 5 Wrong Marks : 1

Question Key Details :

Key	Value
Comprehension	Comp2

তালৰ পাঠাংশ আৰু প্ৰশ্নসমূহৰ উত্তৰ দিয়া :

পঞ্চম প্ৰতিবেদনৰ পৰা

জমিদাৰৰ অৱস্থা আৰু মাটি নিলামৰ কথা পঞ্চম প্ৰতিবেদনত উল্লেখ কৰা হৈছে :

ৰাজহ সময়মতে মুকলি কৰা হোৱা নাছিল আৰু মাটিবেচৰ সময়ো সময়ো বিক্ৰীৰ বাৰা নিলামৰ সন্মুখীন হৈছিল। 1203 চনত, 1796-97 ৰ সৈতে সংশ্লিষ্ট মাটিৰ বিক্ৰীৰ বাবে দিয়া বিজ্ঞাপন জুমা চিকা 28, 70, 061 টকা, অকৃততে বিক্ৰী হোৱা মাটিৰ পৰিসৰ 14, 18, 756, আৰু ক্ৰয়ৰ ধৰণ পৰিমাণ হৈছে 17, 90, 416 টকা। 1204 চনত 1797-98 ৰ লগত সংশ্লিষ্ট কৰা হয়; মাটিৰ বিক্ৰীৰ বাবে বিজ্ঞাপনৰ চিকা 22, 66, 191 টকা বিক্ৰীৰ পৰিমাণ আছিল চিকা 22, 74, 076 টকা আৰু ক্ৰয়ৰ ধৰণ আছিল চিকা 21, 47, 580 টকা। তাৰে মাজত কিছুমান ডিফল্টাৰ দেশৰ পুৰণি পৰিয়ালৰ পৰা আছিলে, মুক্তিচাৰ ৰাজহ তেনেকুৱাই আছিল। ৰাজেশ্বায়, বিষ্ণুপুৰ (বেংগলৰ জিলা) আৰু অনা, বাণিচাসমূহৰ বিভাজনে তাৰ পিছৰ প্ৰতিটো বছৰ শেষত দৰিদ্ৰতা আৰু কংসৰ ভাবুকি দিছিল, আৰু কিছুমান ক্ষেত্ৰত ৰাজহ বিঘ্নাসকলৰ বাবে অসুবিধাৰ সৃষ্টি হৈছিল: ৰাজহৰা মূল্যায়নৰ পৰিমাণ হ্রাস নকৰাকৈ তাক বন্ধা কৰাৰ প্ৰচেষ্টাত।

“পঞ্চম প্ৰতিবেদন” আছিল প্ৰতিবেদনৰ শৃংখলা প্ৰশাসনিক তথ্যৰ ওপৰত, যি আছিল \_\_\_\_\_।

- (1) ইষ্ট ইণ্ডিয়া কোম্পানীৰ লগত কোনো সম্পৰ্ক নাছিল।
- (2) ভাৰতীয় জনতাৰ মাজত আনুষ্ঠানিকভাৱে আলোচনা হৈছিল।
- (3) ব্ৰিটিছ পাৰ্লামেণ্টত তৰ্ক হৈছিল।
- (4) জমিদাৰ আৰু ব্ৰিটিছ অফিচাৰৰ মাজত আলোচনা হৈছিল।

Options :

212807119373 3

212807119374 3

212807119375 3

212807119376 4

Question Number : 249 Question Id : 21280729844 Question Type : MCQ Option Shuffling : No Is Question Mandatory : No Calculator : None

Response Time : N.A Think Time : N.A Minimum Instruction Time : 0

Correct Marks : 5 Wrong Marks : 1

Question Key Details :

Key	Value
Comprehension	Comp2

অনুচ্ছেদটি পড়ো ও নিচের প্রশ্নের উত্তর দাও :

পঞ্চম রিপোর্ট থেকে

জমিদারদের অবস্থা ও জমির নিলাম সম্পর্কে পঞ্চম রিপোর্টে যা বিধৃত হয়েছিল :

রাজস্ব বর্ধাব্যত্বে সংগৃহীত হত না। নির্দিষ্ট সময়ের ব্যবধানে নিলামে জমি বিক্রির পরিস্থিতি তৈরি হত। বঙ্গাব্দ 1203-এ, ইংরেজি 1796-97 খ্রীষ্টাব্দে জমি বিক্রির জন্য বিজ্ঞাপন দেওয়া হয়েছিল। যার 'জুম্মা' বা মূল্য নির্ধারিত হয়েছিল 28, 70, 061 সিক্কা টাকা, জমির প্রকৃতপক্ষে বিক্রিত মূল্য 'জুম্মা' বা নির্ধারিত করা ছিল 14, 18, 756 আর জমির ক্রয় মূল্য ছিল 17, 90, 416 সিক্কা টাকা। বঙ্গাব্দ 1204-এ ইংরেজি 1797-98 তে, বিজ্ঞাপন দেওয়া হয়েছিল যে, একটি জমি 22, 66, 191 সিক্কা টাকায়, জমিটির বিক্রিত মূল্য 22, 74, 076 সিক্কা টাকায় ও ক্রয় মূল্য ছিল 21, 47, 580 সিক্কা টাকা। যে জমিদাররা নির্দিষ্ট সময়ের মধ্যে নির্ধারিত বাজনা কোম্পানির সরকারকে দিত পারতো না- তাদের মধ্যে অনেকেই ছিলেন দেশের পুরানো জমিদার পরিবার। যেমন— নদীয়া, রাজশাহী, বিশেন্দুর (বাংলার সব জেলা), ও অন্যদের ক্ষেত্রে, যাদের জমিদারী খণ্ড-বিখণ্ড হয় পরবর্তী বছরগুলিতে, তারা দারিদ্র্যের শিকার হয় ও ধসে পড়ে যাবে জমির বর্ধিত সরকারী রাজস্ব প্রদানের বিষয়টি রক্ষা করতে গেলে। এই ধরনের কিছু সমস্যাবলী রাজস্ব আধিকারিকদের কাছে উপস্থাপিত হয়েছিল।

'পঞ্চম রিপোর্টটি' একটি ধারাবাহিক প্রশাসনিক নথিপত্র যা ছিল \_\_\_\_\_।

- (1) ইস্ট ইন্ডিয়া কোম্পানির সঙ্গে সংশ্লিষ্ট ছিল না।
- (2) সরকারিভাবে ভারতীয় জনগণের সঙ্গে আলোচিত হয়।
- (3) ব্রিটিশ পার্লামেন্টে দস্তর্ক সংঘটিত হয়।
- (4) ব্রিটিশ আধিকারিক ও জমিদারদের মধ্যে আলোচিত হয়।

Options :

- 212307119373 1  
212307119374 2  
212307119375 3  
212307119376 4

Question Number : 249 Question Id : 212307119344 Question Type : MCQ Option Shuffling : No Is Question Mandatory : No Calculator : None  
Response Time : N.A Think Time : N.A Minimum Instruction Time : 0  
Correct Marks : 5 Wrong Marks : 1

Question Key Details :

Key	Value
Comprehension	Comp1

ફકરો વાંચીને નીચે આપેલા પ્રશ્નોના ઉત્તર આપો :

### પાંચમા અહેવાલમાંથી

જમીનદારોની સ્થિતિ અને જમીનોની હરાજના સંદર્ભમાં પાંચમો અહેવાલ જણાવે છે :

નીચમિત રીતે મહેસુલની આવકની પ્રાપ્તિ કરવામાં આવી ન હતી અને નોંધપાત્ર પ્રમાણમાં જમીનોને સમયાંતરે હરાજ દ્વારા વેચવામાં આવતી હતી. મૂળ વર્ષ 1213 માં 1796-97 ને અનુરૂપ વેચાણ માટે જાહેરાત કરાયેલી જમીનમાં સિક્કા રૂપિયા 28, 70, 061 ની જુમ્મા અથવા કર આકારણી, વાસ્તવમાં વેચાયેલી જમીનની હદ સિક્કા રૂપિયા 14, 18, 756 ની જુમ્મા અથવા કર આકારણી અને નાણા સિક્કા રૂપિયા 17, 90, 416. 1204 માં 1797-98 ને અનુરૂપ જાહેરાત કરાયેલ જમીન સિક્કા 22, 66, 191 માટે હતી, વેચવામાં આવેલ જથ્થો સિક્કા 22, 74, 076 અને ખરીદીના નાણા સિક્કા 21, 47, 580 હતા. ડિફોલ્ટર્સ માના કેટલાક દેશના સૌથી જુના પરિવારો પૈકીના હતા, જેમ કે નુદિયાના રાજા રાજેશાય, ખીરાનેપોર (બંગાળના બધા જિલ્લાઓ), ... અને અન્ય, જેમને દરેક આવનારા વર્ષને અંતે, એસ્ટેટના વિભાજનથી તેમને ગરીબી અને વિનાશનો ભય હતો, અને કેટલાક કિસ્સાઓમાં તેમણે મહેસુલ અધિકારીઓને જાહેર અડલતની સંપૂર્ણ સ્કમો જાળવવાના પ્રયાસોમાં પડતી મુશ્કેલીઓની સ્વૂચાત કરી હતી.

પાંચમો અહેવાલએ વહીવટી રેકૉર્ડ્સ પરના અહેવાલોની શ્રેણી હતી, જે \_\_\_\_\_ હતી.

- (1) ઈંગ્લીશ ઈસ્ટ ઈન્ડિયા કંપની સાથે સંબંધિત નથી.
- (2) સત્તાવર રીતે ભારતીય લોકોમાં ચર્ચા કરાઈ હતી.
- (3) બ્રિટિશ સંસદમાં ચર્ચાઈ હતી.
- (4) બ્રિટિશ અધિકારીઓ અને જમીનદારો વચ્ચે ચર્ચા થઈ હતી.

Options :

112807119373 1

112807119374 2

112807119375 3

112807119376 4

Question Number : 248 Question Id : 11280719844 Question Type : MCQ Option Shuffling : No Is Question Mandatory : No Calculator : None Response Time : N.A Think Time : N.A Minimum Instruction Time : 0

Correct Marks : 5 Wrong Marks : 1

Question Key Details :

Key	Value
Comprehension	Comp1

ವಾಕ್ಯ ಪುಂಜವನ್ನು ಓದಿ ಮತ್ತು ಪ್ರಶ್ನೆಗಳಿಗೆ ಉತ್ತರಿಸಿ :

ಐದನೇ ವರದಿಯಿಂದ

ಜಮೀನ್ದಾರರು ಮತ್ತು ಜಮೀನುಗಳ ಹರಾಜಿನ ಪರಿಷ್ಕೃತಿಯನ್ನು ಸೂಚಿಸಿ ಐದನೇ ವರದಿ ಹೇಳಿತ್ತು.

ಆದಾಯಗಳು ಸರಿಯಾದ ಸಮಯಕ್ಕೆ ವಾಸ್ತವವಾಗಿ ಬರಲಿಲ್ಲ ಮತ್ತು ಜಮೀನು ಆಗಾಗ್ಗೆ ಪರಿಗಣಿಸುವ ಹಾಗೆ ಹರಾಜು ಮಾರಾಟಕ್ಕೆ ತಿಳಿದು ಕೊಂಡಿತು ಸ್ಥಳೀಯ ವರ್ಷ 1203 ರಲ್ಲಿ 1796-97 ಸಮನಾಗಿ, ಮಾರಾಟಕ್ಕಿಟ್ಟು ಜಮೀನಿನ ಜಾಹಿರಾತು ಒಂದು ಜುಮ್ಮ ಅಥವಾ 28,70,061 ರೂಪಾಯಿಗಳ 'ಸಿಕ್ಸ್' ಬರಬಹುದೆಂದು ಗ್ರಹಿಸಲಾಗಿತ್ತು. ಆದರೆ ನಿಜವಾಗಿ ಜಮೀನಿನ ಬೆಲೆ ಒಂದು ಜುಮ್ಮ ಅಥವಾ 14,18,756 ಕ್ಕೆ ನಿರ್ಣಯಕ್ಕೆ ಮಾರಾಟವಾಯಿತು ಮತ್ತು ಕೊಂಡುಕೊಂಡ ಹಣದ ಮೂತ್ರವು 17,90,416 ರೂಪಾಯಿಗಳು 1204 ರಲ್ಲಿ 1797-98 ರ ಜೊತೆ ಸಮನಾಗಿ, ಜಾಹಿರಾತದ ಜಮೀನು 22,66,191 ಸಿಕ್ಸ್ ರೂಪಾಯಿಗಳಿಗೆ, ಮಾರಾಟವಾಗಿದ್ದು 22,74,076 ಸಿಕ್ಸ್ ರೂಪಾಯಿಗಳಿಗೆ ಮತ್ತು ಕೊಂಡುಕೊಂಡ ಹಣ 21,47,580 ಸಿಕ್ಸ್ ರೂಪಾಯಿಗಳು. ಸಾಲ ಮರು ಪಾವತಿಸದಿದ್ದವರಲ್ಲಿ ದೇಶದ ಕೆಲವು ಅತ್ಯಂತ ಹಿರಿಯ ಕುಟುಂಬಗಳಾದ ಸುಡ್ಡಿಯಾದ ರಾಜರುಗಳು ಇದ್ದರು. ರಾಜ ಶಾಯಿ, ಬಿಷನ್‌ಪೋರ (ಒಂಗಾಳದ ಎಲ್ಲಾ ಜಿಲ್ಲೆಗಳು) ಮತ್ತು ಇತರರು ತೋಟಗಳು ಪತ್ತೆ ವರ್ಷ ಕೊನೆ \* ಪೋಗಿ ಅವರಿಗೆ ಬಡತನ ಮತ್ತು ಅವನತಿಯ ಛೇದಿಯನ್ನು ಒಂಟುಮಾಡಿದರು, ಮತ್ತು ಕೆಲವು ಸಂದರ್ಭದಲ್ಲಿ ಸಾರ್ವಜನಿಕರ ನಿರ್ಣಯಗಳ ಪ್ರಮಾಣವನ್ನು ಉಳಿಸಿಕೊಳ್ಳುವ ಪ್ರಯತ್ನದಲ್ಲಿ ಕಂದಾಯ ಅಧಿಕಾರಿಗಳಿಗೆ ಸಂಕಷ್ಟ ಎದುರಾಯಿತು.

ಐದನೇ ವರದಿಯ ಒಂದು ಆಡಳಿತ ದಾಖಲೆಗಳ ಮೇಲಿನ ಸರಣಿ ವರದಿ ಯಾಗಿದ್ದು, ಅದು \_\_\_\_\_.

- (1) ಈಸ್ಟ್ ಇಂಡಿಯಾ ಕಂಪನಿಗೆ ಸಂಬಂಧಿಸಿದ್ದಲ್ಲ
- (2) ಭಾರತದ ಜನರಲ್ಲಿ ಅಧಿಕಾರಯುತವಾಗಿ ಚರ್ಚಿಸಲಾಗಿದೆ
- (3) ಬ್ರಿಟೀಷ್ ಸಂಸತ್ತಿನಲ್ಲಿ ಚರ್ಚಿಸಲಾಗಿದೆ
- (4) ಬ್ರಿಟೀಷ್ ಅಧಿಕಾರಿಗಳು ಮತ್ತು ಜಮೀನ್ದಾರರ ನಡುವೆ ಚರ್ಚಿಸಲಾಗಿದೆ.

Options :

212807119373 1

212807119374 2

212807119375 3

212807119376 4

Question Number : 249 Question Id : 21280729644 Question Type : MCQ Option Shuffling : No Is Question Mandatory : No Calculator : None

Response Time : N.A Think Time : N.A Minimum Instruction Time : 0

Correct Marks : 5 Wrong Marks : 1

Question Key Details :

Key	Value
Comprehension	Comp1



उत्तरा वाचा आणि प्रश्नांचे उत्तर लिहा :

### पाचव्या अहवालातून

जमिनदारांचो परिस्थिती व जमिनींचा लिलाव याचा संदर्भ देवून पाचव्या अहवालात खालील नोंदी आढळतात :

महसूल नियमितपणे भरला जात नव्हता आणि बऱ्याच जमिनी ठराविक कालांतराने लिलाव करून विकण्यासाठी उपलब्ध करून दिल्या जात होत्या. इ.स. 1796-97 म्हणजे शके 1203 मध्ये विक्रीसाठी उपलब्ध असलेल्या व जाहिरात केलेल्या जमिनींचा 'जुम्मा' किंवा मूल्यांकन होते सिक्का रुपये 28, 70, 061 तर प्रत्यक्षात विकलेल्या जमिनींचा 'जुम्मा' किंवा खरेदी रकमेचे मूल्यांकन होते 14, 18, 756 तर खरेदीची रक्कम होती सिक्का 17, 90, 416 रुपये. इ.स. 1797-98 मध्ये म्हणजे शके 1204 मध्ये विक्रीसाठी उपलब्ध असलेल्या जाहिरात केलेल्या जमिनींचे मूल्य 22, 66, 191 तर विक्रीची रक्कम सिक्का 22, 74, 076 रुपये व खरेदीची रक्कम सिक्का 21, 47, 580 रुपये होती. थकबाकीदारांमध्ये देशालीत जुन्या कुटुंबांचा उदाहरणार्थ नुझोयाचे राजे यांचा समावेश होता. राजेशाये, विशेषपूर (बंगालचे सर्व जिल्हे) ... आणि इतर यांच्याबाबत प्रत्येक वर्षाच्या शेवटी त्यांच्या मालमतेचे विभाजन होत होत त्यांच्या डोक्यावर दारिद्र्य आणि न्हास होण्याचा धोका होता. काही ठिकाणी तर महसूला अधिकाऱ्यांना सार्वजनिक मूल्यांकनाची रक्कम कायम राखण्यात अडचणी आल्या.

'पाचवा अहवाल' ही प्रशासकीय नोंदी विषयक अहवालांची एक मालिका आहे जी -

- (1) ब्रिटिश ईस्ट इंडिया कंपनीशी संबंधीत नव्हती.
- (2) भारतीयांमध्ये औपचारिकरित्या चर्चिली गेली.
- (3) ब्रिटिश संसदेत घणाघाती चर्चेद्वारे मांडली गेली.
- (4) ब्रिटिश अधिकारी आणि जमिनदार यांच्यामध्ये चर्चिली गेली.

Options :

- 212807119373 1
- 212807119374 2
- 212807119375 3
- 212807119376 4

Question Number : 249 Question Id : 21280719844 Question Type : MCQ Option Shuffling : No Is Question Mandatory : No Calculator : None  
Response Time : N/A Think Time : N/A Minimum Instruction Time : 0

Correct Marks : 5 Wrong Marks : 1

Question Key Details :

Key	Value
Comprehension	Comp2

താഴെ നൽകിയിരിക്കുന്ന ഖണ്ഡിക വായിച്ച് അതിനു താഴെയുള്ള ചോദ്യങ്ങൾക്ക് ഉത്തരമെഴുതുക :

**അഞ്ചാം റിപ്പോർട്ടിൽ നിന്ന്**

സെമിനാർമാരുടെ അവസ്ഥയും ഭൂലേലവുമായി ബന്ധപ്പെട്ട് അഞ്ചാം റിപ്പോർട്ട് ഇങ്ങനെ പറയുന്നു :

വരുമാനം കൃത്യമായി വീതിച്ചു നൽകിയിരുന്നില്ലെന്നും ഭൂമി കൃത്യമായ ഇടവേളകളിൽ വിൽപ്പനയും നടത്താം 1796-97 ലെ കണക്കുകൾ താരതമ്യം ചെയ്താൽ, 1203 ലെ ഇവയുടെ (സ്ഥലത്തിന്റെ) സിക്ക (പണം) 28.70 61 സ്ഥലം വിറ്റു ജു. 14 - 18 756 വാങ്ങിയ സിക വില 17.80.416 ആയിരുന്നു. 1204 തുരേന്ന് 1797 ൽ പരസ്യപ്പെടുത്തിയത് പ്രകാരം സിക്ക. രൂപ 22.66.191 സിക്കയായി വിറ്റ അളവ് 2214. 076 മേടിച്ചത് 2147.580 കടക്കാലായവർ തിക്കവാറും പഴയ കൂട്ടംബങ്ങളായിരുന്നു. നെടിയ രാജാക്കന്മാരെ പോലെ ബംഗാളിലെ ജില്ലകളായ രാജ്ഷി ബിഷൻപൂർ ഇത്തരത്തിലുള്ള സംഭവവികാസങ്ങൾ നികൃതി പിരിക്കുന്നവർക്ക് പിന്നീട് പ്രശ്നമായി തീർന്നു. അവരുടെ പ്രവർത്തനം കൊണ്ട് പൊതുജനത്തിന്റെ സ്വത്ത് നശിക്കാതെ കാത്തു

അഞ്ചാം റിപ്പോർട്ട് എന്നത് കൃത്യമായ റിപ്പോർട്ടുകൾ, ഭരണത്തെക്കുറിച്ചുള്ള രേഖകൾ എന്ന് വെച്ചാൽ \_\_\_\_\_.

- (1) ഈസ്റ്റ് ഇന്ത്യ കമ്പനിയുമായി ബന്ധപ്പെട്ടിരുന്നില്ല.
- (2) ഔദ്യോഗികമായി ഇന്ത്യക്കാൾക്കിടയിൽ ചർച്ച ചെയ്തിരുന്നു.
- (3) ബ്രിട്ടീഷ് പാർലമെന്റിൽ ചർച്ച ചെയ്തിരുന്നു.
- (4) ബ്രിട്ടീഷ് ഉദ്യോഗസ്ഥരും ജർമ്മിമാരുമായി ചർച്ച നടന്നിരുന്നു.

Options :-  
 112807119373 1  
 112807119374 2  
 112807119375 3  
 112807119376 4

Question Number : 249 Question Id : 112807119344 Question Type : MCQ Option Shuffling : No Is Question Mandatory : No Calculator : None  
 Response Time : N.A Think Time : N.A Minimum Instruction Time : 0  
 Correct Marks : 5 Wrong Marks : 1

Question Key Details :

Key	Value
Comprehension	Comp1

ଅନୁଲେଖନୀୟ ପଦ୍ମ ଏବଂ ନିମ୍ନଲିଖିତ ପୁସ୍ତକ ଉଭୟ ବିଅରୁ ।

**ପଞ୍ଚମ ବିପୋର୍ଟରୁ**

କର୍ମଚାରୀମାନଙ୍କର ଅବସ୍ଥା ଏବଂ କର୍ମ ନିରାମ ପ୍ରସଙ୍ଗରେ ପଞ୍ଚମ ବିପୋର୍ଟ ଦର୍ଶାଇଥିଲା :

ରାଜସ୍ୱ ଆୟ ପିତ୍ତ ସମୟରେ ଆବୀକ୍ଷ୍ୟ କରାଯାଇ ନଥିଲା ଏବଂ ସବୁ ପରିମାଣରେ କର୍ମଚାରୀଙ୍କ ନିରାମ କରାଯାଇଥିଲା । 1203 ମସିହାରେ ଏବଂ 1796-97 ମସିହାରେ ମଧ୍ୟ ଯେଉଁ କର୍ମଚାରୀଙ୍କ ବିକ୍ରି ହେବୁ ବିକ୍ରୟକ ବିଆଯାଇଥିଲା ଏକ ନୂଆ ଯାତାକି ଡିଏଲ୍ ନୁପିଲ୍ 28, 70, 061, ଇତ୍ତ ଦୁଆର ପର୍ଯ୍ୟ ଏକ ଛୁଆ 14, 18, 756 ଏବଂ ବିକ୍ରିରୁ ମିଳିଥିବା ମୂଲ୍ୟ ବା ପଇସା ଡିଏଲ୍ 17, 90, 416 । 1204 ଏବଂ 1797-98 ଯେଉଁ କର୍ମଚାରୀଙ୍କ ବିକ୍ରୟକ ବିଆଯାଇଥିଲା ଚାନ୍ଦାର ମୂଲ୍ୟ ଡିଏଲ୍/ନୁପିଲ୍ 22, 66, 191 ଯେଉଁ ପରିମାଣର ବିକ୍ରି ହୋଇଥିଲା ଚାନ୍ଦାର ମୂଲ୍ୟ ଡିଏଲ୍/ନୁପିଲ୍ 22, 74, 076 ଏବଂ ବିକ୍ରୟକଥିବା ପଇସା ଡିଏଲ୍/ନୁପିଲ୍, 21, 47, 580 । ବିରୁଦ୍ଧ କରିଥିବା ବ୍ୟକ୍ତିମାନଙ୍କ ମଧ୍ୟରେ ଦେଶର କିଛି ସବୁଠାରୁ ପୁରୁଣା ପରିବାର ଥିଲେ, ସେମାନେ ନୂତନର ରାଜାମାନେ । ଗାଜପତି, ବିଶେଷପୋର (ବେଙ୍ଗଲର ସମସ୍ତ ଜିଲ୍ଲା) ଏବଂ ଅନ୍ୟ, ଯେଉଁମାନଙ୍କର ରୁସୁଗି କ୍ରମାବଳରେ ହ୍ରାସ ପାଇଥିଲା । ସେମାନଙ୍କୁ ଦାରିଦ୍ର୍ୟ ନଷ୍ଟ କରିଦେବା ବୋଲି ଚିନ୍ତାଯାଇଥିଲା ଏବଂ କିଛି କ୍ଷେତ୍ରରେ ରାଜସ୍ୱ ଆୟ କର୍ମଚାରୀମାନଙ୍କୁ କଳ୍ପ କର ଆଦାୟ ସୁରକ୍ଷା କରିବାରେ ଅସୁବିଧା ହେଇଥିଲା ।

ପଞ୍ଚମ ବିପୋର୍ଟଟି ଏକାଧିକ ପ୍ରଶ୍ନାବଳିର ତଥ୍ୟ ଯାହାକି \_\_\_\_\_ ।

- (1) ଇଷ୍ଟ ଇଣ୍ଡିଆ କମ୍ପାନୀ କର୍ମଚାରୀ ସମ୍ବନ୍ଧରେ ନଥିଲା ।
- (2) ଭାରତର ଲୋକମାନଙ୍କର ଦୁରା ସରକାରୀ ଖରେ ଆଲୋଚନା ହୋଇଥିଲା ।
- (3) ବ୍ରିଟିଶ୍ ସଂସଦରେ ଆଲୋଚନା ହୋଇଥିଲା ।
- (4) ବ୍ରିଟିଶ୍ କର୍ମଚାରୀ ଏବଂ କର୍ମଚାରୀଙ୍କ ମଧ୍ୟରେ ଆଲୋଚନା ହୋଇଥିଲା ।

Options :  
212807119373 1  
212807119374 2  
212807119375 3  
212807119376 4

Question Number : 249 Question Id : 21280719844 Question Type : MCQ Option Shuffling : No Is Question Mandatory : No Calculator : None  
Response Time : N.A Think Time : N.A Minimum Instruction Time : 0  
Correct Marks : 5 Wrong Marks : 1  
Question Key Details :

Key	Value
Comprehension	Comp2

ਪੈਰੋ ਨੂੰ ਪੜ੍ਹੋ ਅਤੇ ਨਿਮਨਲਿਖਤ ਪ੍ਰਸ਼ਨ ਦੇ ਉਤਰ ਦਿਓ।

From the Fifth report

ਚਿੰਮੀਦਾਰਾਂ ਦੀ ਹਾਲਤ ਅਤੇ ਜ਼ਮੀਨ ਦੀ ਨਿਲਾਮੀ ਨੂੰ ਦਰਸਾਉਂਦੀ, ਪੰਜਵੀਂ ਰਿਪੋਰਟ ਨੇ ਕਿਹਾ :

ਕਰਾਂ ਦੀ ਅਦਾਇਗੀ ਇਮਾਨਦਾਰੀ ਨਾਲ ਨਾ ਕਰਨ ਕਰਕੇ ਜ਼ਮੀਨ ਨੂੰ ਨਿਲਾਮ ਕਰਦੇ ਵੇਚਣ ਲਈ ਵਿਚਾਰਣਯੋਗ ਹੋਣਾ ਪਿਆ। 1203 ਦੇ ਸਾਲ ਦੇ ਮੁਕਾਬਲੇ 1796-97 ਵਿਚ, ਜ਼ਮੀਨ ਨੂੰ ਵੇਚਣ ਲਈ 'ਜ਼ਮਾ' ਦੇ ਆਧਾਰ ਤੇ ਇਸ਼ਤਿਹਾਰ ਦਿਤਾ ਗਿਆ। 1204 ਵਿਚ ਇਹ ਸਿੱਕਿਆਂ ਦਾ ਅੰਦਾਜ਼ਨ ਲਗਾਇਆ ਗਿਆ ਕਿ 28, 70, 061 ਵਿਚ ਵਿਕੇਗੀ ਪਰ ਜ਼ਮੀਨ ਦੀ ਹੱਦ 'ਜ਼ਮੇ' ਵਿਚ ਵਿਕੀ ਇਸਦੀ ਕੀਮਤ 14, 18, 756 ਸੀ ਅਤੇ 'ਸਿੱਕੇ' ਨੂੰ ਖਰੀਦਣ ਦੀ ਕੀਮਤ 17, 90, 416 ਸੀ। 1797-98 ਅਨੁਸਾਰ ਜ਼ਮੀਨ ਦੀ ਇਸ਼ਤਿਹਾਰੀ ਕੀਮਤ 'ਸਿੱਕਾ' ਰੁਪਏ ਵਿਚ 22, 66, 191, ਸਿੱਕਿਆਂ ਦੀ ਮਾਤਰਾ 22, 74, 076 ਵਿੱਚ ਵੇਚੇ ਗਏ ਅਤੇ 21, 47, 580 ਰੁਪਏ ਵਿਚ 'ਸਿੱਕਾ' ਰੁਪਏ ਵੇਚੇ ਗਏ। ਦੇਸ਼ ਦੇ ਸਭ ਤੋਂ ਪੁਰਾਣੇ ਪਰਿਵਾਰ ਦੇਸ਼ੀਆਂ ਦੀ ਸੂਚੀ ਵਿਚ ਸ਼ਾਮਲ ਸਨ, ਜਿਹੜੇ ਕਿ ਨੌਦਿਆਂ ਦੇ ਰਾਜੇ ਸਨ। ਰਾਜੇਸ਼ੇਅ, ਬਿਸ਼ਦਪੁਰ (ਬੰਗਾਲ ਦੇ ਸਾਰੇ ਜਿਲੇ) ਅਤੇ ਹੋਰਾਂ ਦੇ ਇਲਾਕੇ ਵੰਡ ਨਾਲ ਅਲੱਗ ਕਰ ਦਿੱਤੇ ਗਏ। ਉਨ੍ਹਾਂ ਨੂੰ ਗ਼ਰੀਬੀ ਅਤੇ ਉਜਾੜੇ ਲਈ ਧਮਕਾਇਆ ਗਿਆ। ਕੁਝ ਉਦਾਹਰਨਾਂ ਵਿਚ ਕਰ ਅਫ਼ਸਰਾਂ ਦੁਆਰਾ ਕਰ ਇਕੱਤਰ ਕਰਨ ਦੀਆਂ ਮੁਸ਼ਕਲਾਂ ਨੂੰ ਦਰਸਾਇਆ ਗਿਆ ਜਿਹੜੇ ਜਨਤਕ ਮੁਲਾਂਕਣ ਦੀ ਮਾਤਰਾ ਨੂੰ ਘੱਟੋ ਘੱਟ ਸੁਰੱਖਿਅਤ ਰੱਖਣ ਦੇ ਆਪਣੇ ਜਤਨ ਕਰਦੇ ਸੀ।

ਪੰਜਵੀਂ ਰਿਪੋਰਟ ਪ੍ਰਸ਼ਾਸਕੀ ਰਿਕਾਰਡ ਦੀਆਂ ਰਿਪੋਰਟਾਂ ਦੀ ਲੜੀ ਸੀ, ਜਿਹੜੀ \_\_\_\_\_।

- (1) ਈਸਟ ਇੰਡੀਆ ਕੰਪਨੀ ਨਾਲ ਸਬੰਧਤ ਨਹੀਂ ਸੀ।
- (2) ਭਰਤੀ ਲੋਕਾਂ ਵਿਚ ਦਫ਼ਤਰੀ ਤੌਰ ਤੇ ਚਰਚਾ ਕੀਤੀ ਗਈ ਸੀ।
- (3) ਬ੍ਰਿਟਿਸ਼ ਪਾਰਲੀਮੈਂਟ ਵਿਚ ਬਹਿਸ ਦਾ ਮੁੱਦਾ ਸੀ।
- (4) ਬ੍ਰਿਟਿਸ਼ ਅਫ਼ਸਰਾਂ ਅਤੇ ਚਿੰਮੀਦਾਰਾਂ ਵਿਚਕਾਰ ਚਰਚਾ ਕੀਤੀ ਗਈ ਸੀ।

Options :

112807119373 1

212807119374 2

112807119375 3

212807119376 4

Question Number : 249 Question Id : 21280719844 Question Type : MCQ Option Shuffling : No Is Question Mandatory : No Calculator : None:

Response Time : N/A Think Time : N/A Minimum Instruction Time : 0

Correct Marks : 5 Wrong Marks : 1

Question Key Details :

Key	Value
Comprehension	Comp2

கீழ்க்காணும் பத்தியைப் படித்து வினாக்களுக்கு விடையளிக்கவும்.

(ஐந்தாம் அறிக்கையில் இருந்து எடுக்கப்பட்டது)

ஐயீன்தாரர்களின் நிலைமை மற்றும் நிலங்கள் ஏலம் விடப்பட்டது குறித்து ஐந்தாவது அறிக்கை கூறியதாவது :

காலந்தவறாமல் வருமானம் வசூலிக்கப்பட்டது; நிலங்கள் இயன்ற அளவிற்கு குறிப்பிட்ட கால இடைவெளியில் ஏலம் விடப்பட்டன. சொந்த ஆண்டு 1203 (இந்திய ஆண்டு) அதாவது 1796 - 97 -ல் விற்பனைக்கு அறிவிக்கப்பட்ட நிலத்தின் மீது ஜிம்மா என்ற மதிப்பீடு "சிக்கா" ரூபாய் 28,70,061 சேகரிக்கப்பட்டது; இதில் மதிப்பீடு சிக்கா ரூபாய் 14,18,576 மற்றும் விலைக்கு வாங்கப்பட்ட மதிப்பு சிக்கா ரூபாய் 17,90,416 ஆகும். 1204 -ல், அதாவது 1797-98 -ல் விற்பனைக்கு அறிவிக்கப்பட்ட நிலத்தின் மதிப்பு சிக்கா ரூபாய் 22,66,191; நிலம் விற்கப்பட்டதன் மதிப்பு சிக்கா ரூபாய் 22,74,076. வாங்கப்பட்ட நில மதிப்பு 21,47,580. நூடியா, ராஜஷாயி, போன்ற நாட்டின் மிகப் பழமையான குடும்பங்கள் பணம் செலுத்த தவறியவர்கள் பட்டியலில் இருந்தனர். ராஜஷாயி, பிஷன்பூர் (அனைத்தும் வங்காளத்தின் மாவட்டங்கள்) ஒவ்வொரு ஆண்டின் முடிவிலும் துண்டாடப்பட்ட பெரும் நிலப்பரப்பின் உரிமையாளர்கள் ஏழ்மை மற்றும் அழிவு கொண்டு அக்கறாத்தப்பட்டனர். சில நேரங்களில் வருவாய் அதிகாரிகளுக்கு, தங்கள் முயற்சியில் பொது மதிப்பீட்டு தொகையை குறையாமல் பார்த்துக் கொள்ள வேண்டிய நிலைக்குத் தள்ளப்பட்டனர்.

ஐந்தாவது அறிக்கை நிர்வாக ஆவணங்கள் மீதான அறிக்கைகளின் ஒரு தொடராகும். இது \_\_\_\_\_

- (1) கிழக்கிந்திய கம்பெனிக்கு இதில் தொடர்பில்லை
- (2) இந்திய மக்களிடையே அதிகாரப்பூர்வமாக விவாதிக்கப்பட்டது
- (3) பிரிட்டிஷ் நாடாளுமன்றத்தில் விவாதிக்கப்பட்டது
- (4) பிரிட்டிஷ் அதிகாரிகள் மற்றும் ஐயீன்தாரர்களிடையே விவாதிக்கப்பட்டது

Options :

212807119373 1

212807119374 2

212807119375 3

212807119376 4

Question Number : 249 Question Id : 21280719544 Question Type : MCQ Option Shuffling : No Is Question Mandatory : No Calculator : None

Response Time : N.A Think Time : N.A Minimum Instruction Time : 0

Correct Marks : 5 Wrong Marks : 1

Question Key Details :

Key	Value
Comprehension	Comp2

గద్యాంశం చదివి ప్రశ్నకు సమాధానం ఇవ్వండి :

(బదవ రిపోర్టు నుండి)

జమీందారులు మరియు భూమి వేలం పరిస్థితులను నూచించి బదవ రిపోర్టు ఇలా చెప్పింది :

రాబడి సకాలంలో రావడం లేదు మరియు చాలామట్టకు భూములు వేలం పొటతో అమ్ముడానికి పెట్టబడ్డాయి. 1203 సంవత్సరంలో, 1796-97 కు అనుసంధాన, అమ్ముడానికి ప్రకటించిన నేల జమ్మి లేదా సిక్కియా యొక్క మూల్యాంకనం 28, 70, 061, యదార్థంగా అమ్ముబడిన నేల జమ్మి లేదా మూల్యాంకనం 14, 18, 756, మరియు ఖరీదు ధన మొత్తం సిక్కియా రూపాయలు 17, 90, 416. 1204 లో, 1797-98 కు అనుసంధాన, అమ్ముడానికి ప్రకటించిన నేల జమ్మి లేదా సిక్కియా యొక్క మూల్యాంకనం 22, 66, 191, యదార్థంగా అమ్ముబడిన నేల జమ్మి లేదా మూల్యాంకనం 22, 74, 076 మరియు ఖరీదు ధన మొత్తం సిక్కియా రూపాయలు 21, 47, 580. అవరాధులలో కొందరు సుద్ధియా రాజుల వంటి దేశ పురాతన కుటుంబం వారు, రాజకాయ, వీషహోం (ఐంగోల్ లోని అన్నీ జిల్లాలు) మరియు మిగతావీ, ప్రతి తర్వాతి సంవత్సరం చివర వారి ఎస్టేట్లు విడదీయడం వారికి పేదరికం మరియు వినాశన భయాన్ని మరియు కొన్నింటిలో ప్రజా మూల్యాంక తగ్గిన మొత్తాన్ని సందర్శించడంలో రెవెన్యూ అధికారులకు ఇబ్బందులను కలిగించాయి.

బదవ రిపోర్టు పరిపాలన ప్రశ్నల రిపోర్టుల శ్రేణి ఇది \_\_\_\_\_

- (1) ఈస్ట్ ఇండియా కంపనీ కి సంబంధం లేదు
- (2) భారత ప్రజల మధ్య అధికారికంగా చర్చించబడింది
- (3) బ్రిటిష్ పార్లమెంటులో వాదించబడింది
- (4) బ్రిటిష్ అధికారులు మరియు జమీందారుల మధ్య చర్చించబడింది

Options :

212807119373\_1

212807119374\_2

212807119375\_3

212807119376\_4

Question Number : 249 Question Id : 21280719544 Question Type : MCQ Option Shuffling : No Is Question Mandatory : No Calculator : None

Response Time : N.A Think Time : N.A Minimum Instruction Time : 0

Correct Marks : 5 Wrong Marks : 1

Question Key Details :

Key	Value
Comprehension	Comp2

پانچویں رپورٹ سے لئے گئے اقتباس کو پڑھیں اور سوالات کا جواب دیں۔

زمیندار کی حالت اور زمین کی نیلامی کا حوالہ دیتے ہوئے رپورٹ کہتا ہے:

زمینی منافع پابندی سے نہیں نکالا گیا اور عام طور سے زمینوں کی نیلامی کی گئی وہی سال 1203 بمطابق 97-1796 زمین جو سیل کے لگائی گئی اس کا اندازاً ہم (Jumm) 20,70,061 سکہ روپیہ تھا۔ جبکہ اصل زمین کی فروخت جو ہم (Jumm) پر مشتمل تھی وہ اندازاً 14,10,756 تھا اور جو بیسہ سکا اس کے فروخت کرنے پر لیا وہ تقریباً 17,90,416 تھا۔

1204 بمطابق 90-1797 میں زمین اشتہار کی گئی۔ 22,66,191 کے روپیہ (سکا) کے لئے اس میں 22,74,076 روپے لئے گئے۔

ڈیفنڈرز میں ملک کی کچھ بڑے پرانے خاندان تھے جیسے کہ راجہ نودلر (Nudeler) راجپوت اور بسین پور، بنگال کے تمام اضلاع اور کچھ علاوہ جن کی ریاستیں الگ الگ شتم ہو گئی اور ہر آنے والے سال فرسبی نے دستک دی۔ اور کسی حد تک دیویو آسمس کے لئے مشکل ہو گیا کہ وہ کم نہ ہونے والے عوامی مالیت کی حفاظت کر سکیں۔ پانچویں رپورٹ انتظامیاتی ریکارڈ کی رپورٹس کی سیریز جو متعلقہ ہے۔

(1) ایسٹ انڈیا کمپنی کے متعلق نہیں ہے۔

(2) سرکاری مباحث ہندوستانی لوگوں کے درمیان

(3) بدعنوانی پارلیمان میں مباحثے

(4) زمینداروں اور برطانوی آفیسران کے بیچ کے بیانات

Options :

112807119373 1

112807119374 2

112807119373 3

112807119374 4

Question Number : 250 Question Id : 11280729845 Question Type : MCQ Option Skuffling : No Is Question Mandatory : No Calculator : None  
Response Time : N.A Think Time : N.A Minimum Instruction Time : 0

Correct Marks : 5 Wrong Marks : 1

Question Key Details :

Key	Value
Comprehension	Comp2

Read the passage and answer the question :

**From the Fifth report**

Referring to the condition of zamindars and the auction of lands, the Fifth Report stated :

The revenue was not realised with punctuality, and lands to a considerable extent were periodically exposed to sale by auction. In the native year 1203, corresponding with 1796-97, the land advertised for sale comprehended a *jumma* or assessment of *sicca* rupees 28, 70, 061, the extent of land actually sold bore a *jumma* or assessment of 14, 18, 756, and the amount of purchase money *sicca* rupees 17, 90, 416. In 1204. Corresponding with 1797-98, the land advertised was for *sicca* rupees 22, 66, 191, the quantity sold was for *sicca* rupees 22, 74, 076 and the purchase money *sicca* rupees 21, 47, 580. Among the defaulters were some of the oldest families of the country, Such were the rajahs of Nuddea, Rajeshaye, Bishenpore (all districts of Bengal), ... and others, the dismemberment of whose estates at the end of each succeeding year, threatened them with poverty and ruin, and in some instances presented difficulties to the revenue officers, in their efforts to preserve undiminished the amount of public assessment.

'The Fifth Report' was produced by \_\_\_\_\_.

- (1) British Queen
- (2) A Select Committee
- (3) A committee of Indian zamindars
- (4) British King

Options :

212807119373-1

212807119374-2

212807119375-3

212807119380-4

Question Number : 150 Question Id : 21280719845 Question Type : MCQ Option Shuffling : No Is Question Mandatory : No Calculator : None  
Response Time : N.A Think Time : N.A Minimum Instruction Time : 0

Correct Marks : 5 Wrong Marks : 1

Question Key Details :

Key	Value
Comprehension	Comp2



निम्नलिखित गद्यांश को पढ़कर नीचे दिये गये प्रश्न का उत्तर दीजिए :

**पाँचवीं रिपोर्ट से उद्धृत**

ज़मींदारों की हालत और ज़मीनों की नीलामों के बारे में पाँचवीं रिपोर्ट में कहा गया है :

राजस्व समय पर नहीं वसूल किया जाता था और काफी हद तक ज़मीनों समय-समय पर नीलामों पर बेचने के लिए रखी जाती थीं। स्थानीय वर्ष 1203, तदनुसार सन् 1796-97 में बिहारी के लिए विज्ञापित ज़मीन की निर्धारित राशि (जुम्मा) 28,70,061 सिक्का रु. थी और वह वास्तव में 17,90,416 रु. में बेची गई और 14,18,756 रु. की राशि जुम्मा के रूप में प्राप्त हुई। स्थानीय संवत् 1204, तदनुसार सन् 1797-98 में 22,66,191 सिक्का रु. के लिए ज़मीन विज्ञापित की गई, 22,74,076 सिक्का रु. की ज़मीन बेची गई और क्रय राशि 21,47,580 सिक्का रु. थी। बाकौदारों में कुछ लोग देश के बहुत पुराने परिवारों में से थे। ये थे : नदिया, राजशाही, विशनपुर (सभी बंगाल के जिले) आदि के राजा...। साल दर साल उनकी जागीरों के टूटने जाने से उनकी हालत बिगड़ गई। उन्हें गरीबी और बर्बादी का सामना करना पड़ा और कुछ मामलों में तो सार्वजनिक निर्धारण की राशि को यथावत बनाए रखने के लिए राजस्व अधिकारियों को भी काफी कठिनाइयों उठानी पड़ीं।

'पाँचवीं रिपोर्ट' \_\_\_\_\_ द्वारा बनाई गई थी।

- (1) ब्रिटिश महारानी
- (2) एक सलेक्ट कमेटी
- (3) भारतीय ज़मींदारों की एक समिति
- (4) ब्रिटिश राजा

Options :

212807119377 1

212807119378 2

212807119379 3

212807119380 4

Question Number : 250 Question Id : 21280719845 Question Type : MCQ Option Shuffling : No Is Question Mandatory : No Calculator : None

Response Time : N.A Think Time : N.A Minimum Instruction Time : 0

Correct Marks : 5 Wrong Marks : 1

Question Key Details :

Key	Value
Comprehension	Comp2

তালৰ পাঠাংশ আৰু প্ৰশাসনমূহৰ উত্তৰ দিয়া :

পঞ্চম প্ৰতিবেদনৰ পৰা

জমিদাৰৰ অৱস্থা আৰু মাটি নিলামৰ কথা পঞ্চম প্ৰতিবেদনত উল্লেখ কৰা হৈছে :

ৰাজহ সময়মতে মুকলি কৰা হোৱা নাছিল আৰু মাটিবেচৰ সময়ো সময়ো বিক্ৰীৰ দ্বাৰা নিলামৰ সন্মুখীন হৈছিল। 1203 চনত, 1796-97 ৰ সৈতে সংশ্লিষ্ট মাটিৰ বিক্ৰীৰ বাবে দিয়া বিজ্ঞাপন জুমা চিকা 28, 70, 061 টকা, অকৃততে বিক্ৰী হোৱা মাটিৰ পৰিসৰ 14, 18, 756, আৰু ক্ৰয়ৰ ধৰণ পৰিমাণ হৈছে 17, 90, 416 টকা। 1204 চনত 1797-98 ৰ লগত সংশ্লিষ্ট কৰা হয়; মাটিৰ বিক্ৰীৰ বাবে বিজ্ঞাপনৰ চিকা 22, 66, 191 টকা বিক্ৰীৰ পৰিমাণ আছিল চিকা 22, 74, 076 টকা আৰু ক্ৰয়ৰ ধৰণ আছিল চিকা 21, 47, 580 টকা। তাৰে মাজত কিছুমান ডিফল্টাৰ দেশৰ পুৰণি পৰিয়ালৰ পৰা আছিলে, মুক্তিচাৰ ৰাজহ তেনেকুৱাই আছিল। ৰাজেশ্বায়, বিষ্ণুপুৰ (বেংগলৰ জিলা) আৰু অনা, বাণিচাসমূহৰ বিভাজনে তাল পিছৰ প্ৰতিটো বছৰ শেষত দৰিদ্ৰতা আৰু কংসৰ ভাবুকি দিছিল, আৰু কিছুমান ক্ষেত্ৰত ৰাজহ বিয়োগকলৰ বাবে অসুবিধাৰ সৃষ্টি হৈছিল: ৰাজহৰা মূল্যায়নৰ পৰিমাণ হ্রাস নকৰাকৈ তাক বন্ধা কৰাৰ প্ৰচেষ্টাত।

“পঞ্চম প্ৰতিবেদন” কোনে উলিয়াইছিল ?

- (1) ব্ৰিটিছ ৰাণী
- (2) এখন নিৰ্বাচিত সমিতি
- (3) ভাৰতীয় জমিদাৰৰ সমিতি
- (4) ব্ৰিটিছ ৰাজ

Options :

- 112807119377 1
- 112807119378 2
- 112807119379 3
- 112807119380 4

Question Number : 250 Question Id : 11280729845 Question Type : MCQ Option Shuffling : No Is Question Mandatory : No Calculator : None  
Response Time : N.A Think Time : N.A Minimum Instruction Time : 0  
Correct Marks : 5 Wrong Marks : 1

Question Key Details :

Key	Value
Comprehension	Comp1

অনুচ্ছেদটি পড়ো ও নিচের প্রশ্নের উত্তর দাও :

পঞ্চম রিপোর্ট থেকে

জমিদারদের অবস্থা ও জমির মিলান সম্পর্কে পঞ্চম রিপোর্টে যা বিধৃত হয়েছিল :

রাজস্ব বন্দ্যবৎভাবে সংগৃহীত হত না। নির্দিষ্ট সময়ের ব্যবধানে নিলামে জমি বিক্রির পরিস্থিতি তৈরি হত। বঙ্গাব্দ 1203-এ, ইংরেজি 1796-97 খ্রীষ্টাব্দে জমি বিক্রির জন্য বিজ্ঞপন দেওয়া হয়েছিল। যার 'জুম্মা' বা মূল্য নির্ধারিত হয়েছিল 28, 70, 061 সিক্কা টাকা, জমির প্রকৃতপক্ষে বিক্রিত মূল্য 'জুম্মা' বা নির্ধারিত কর ছিল 14, 18, 756 আর জমির ক্রয় মূল্য ছিল 17, 90, 416 সিক্কা টাকা। বঙ্গাব্দ 1204-এ ইংরেজি 1797-98 তে, বিজ্ঞপন দেওয়া হয়েছিল যে, একটি জমি 22, 66, 191 সিক্কা টাকার, জমিটির বিক্রিত মূল্য 22, 74, 076 সিক্কা টাকার ও ক্রয় মূল্য ছিল 21, 47, 580 সিক্কা টাকা। যে জমিদাররা নির্দিষ্ট সময়ের মধ্যে নির্ধারিত বাজনা কোম্পানির সরকারকে দিত পারতো না- তাদের মধ্যে অনেকেই ছিলেন দেশের পুরানো জমিদার পরিবার। যেমন— নদীয়া, রাজশাহী, বিশেন্দুর (বাংলার সব জেলা), ও অন্যদের ক্ষেত্রে, যাদের জমিদারী খণ্ড-বিখণ্ড হয় পরবর্তী বছরগুলিতে, তারা দারিদ্র্যের শিকার হয় ও ধ্বংস হয়ে যাবে জমির বর্ধিত সরকারী রাজস্ব প্রদানের বিষয়টি রক্ষা করতে গেলে। এই ধরণের কিছু সমস্যাবলী রাজস্ব আধিকারিকদের কাছে উপস্থাপিত হয়েছিল।

'পঞ্চম রিপোর্টটি' যাদের দ্বারা উপস্থাপিত হয়েছিল —

- (1) ব্রিটিশ রাণী
- (2) সিলেক্ট কমিটি
- (3) ভারতীয় জমিদারগণ
- (4) ব্রিটিশ রাজ

Options :

- 212307119377 1  
212307119378 2  
212307119379 3  
212307119380 4

Question Number : 250 Question Id : 212307119345 Question Type : MCQ Option Shuffling : No Is Question Mandatory : No Calculator : None  
Response Time : N.A Think Time : N.A Minimum Instruction Time : 0  
Correct Marks : 5 Wrong Marks : 1

Question Key Details :

Key	Value
Comprehension	Comp1

ફકરો વાંચીને નીચે આપેલા પ્રશ્નોના ઉત્તર આપો :

### પાંચમા અહેવાલમાંથી

જમીનદારોની સ્થિતિ અને જમીનોની હરાજના સંદર્ભમાં પાંચમો અહેવાલ જણાવે છે :

નીચમિત રીતે મહેસુલની આવકની પ્રાપ્તિ કરવામાં આવી ન હતી અને નીંધપાત્ર પ્રમાણમાં જમીનોને સમયાંતરે હરાજ દ્વારા વેચવામાં આવતી હતી. મૂળ વર્ષ 12113 માં 1796-97 ને અનુરૂપ વેચાણ માટે બહેરાત કરાયેલી જમીનમાં સિક્કા રૂપિયા 28, 70, 061 ની જુમ્મા અથવા કર આકારણી, વાસ્તવમાં વેચાયેલી જમીનની હદ સિક્કા રૂપિયા 14, 18, 756 ની જુમ્મા અથવા કર આકારણી અને નાણા સિક્કા રૂપિયા 17, 90, 416. 1204 માં 1797-98 ને અનુરૂપ બહેરાત કરાયેલ જમીન સિક્કા 22, 66, 191 માટે હતી, વેચવામાં આવેલ જથ્થો સિક્કા 22, 74, 076 અને ખરીદીના નાણા સિક્કા 21, 47, 580 હતા. ડિફોલ્ટસ માના કેટલાક દેરાના સોથી જુના પરિવારો પૈકીના હતા, જેમ કે નુદિયાના રાજા રાજેશાય, ખીરાનેપોર (બંગાળના બધા જિલ્લાઓ), ... અને અન્ય, જેમને દરેક આવનારા વર્ષને અંતે, એસ્ટેટના વિભાજનથી તેમને ગરીબી અને વિનાશનો ભય હતો, અને કેટલાક કિસ્સાઓમાં તેમણે મહેસુલ અધિકારીઓને જાહેર આકલનની સંપૂર્ણ સ્કમો જાળવવાના પ્રયાસોમાં પડતી મુશ્કેલીઓની સ્વજાત કરી હતી.

‘પાંચમો અહેવાલ’ \_\_\_\_\_ દ્વારા તૈયાર કરવામાં આવ્યો હતો.

- (1) બ્રિટનની રાણી
- (2) એક પસંદગી સમિતિ
- (3) ભારતીય જમીનદારોની સમિતિ
- (4) બ્રિટનના રાજા

Options :

112807119373 1

112807119373 2

112807119379 3

112807119380 4

Question Number : 150 Question Id : 11280719845 Question Type : MCQ Option Shuffling : No Is Question Mandatory : No Calculator : None  
Response Time : N.A Think Time : N.A Minimum Instruction Time : 0

Correct Marks : 5 Wrong Marks : 1

Question Key Details :

Key	Value
Comprehension	Comp1

ವಾಕ್ಯ ಪುಂಜವನ್ನು ಓದಿ ಮತ್ತು ಪ್ರಶ್ನೆಗಳಿಗೆ ಉತ್ತರಿಸಿ :

ಐದನೇ ವರದಿಯಿಂದ

ಜಮೀನ್ದಾರರು ಮತ್ತು ಜಮೀನುಗಳ ಹರಾಜಿನ ಪರಿಷ್ಕೃತಿಯನ್ನು ಸೂಚಿಸಿ ಐದನೇ ವರದಿ ಹೇಳಿತ್ತು.

ಆದಾಯಗಳು ಸರಿಯಾದ ಸಮಯಕ್ಕೆ ವಾಸ್ತವವಾಗಿ ಬರಲಿಲ್ಲ ಮತ್ತು ಜಮೀನು ಆಗಾಗ್ಗೆ ಪರಿಗಣಿಸುವ ಹಾಗೆ ಹರಾಜು ಮಾರಾಟಕ್ಕೆ ತಿಳಿದು ಕೊಂಡಿತು ಸ್ಥಳೀಯ ವರ್ಷ 1203 ರಲ್ಲಿ 1796-97 ಸಮನಾಗಿ, ಮಾರಾಟಕ್ಕಿಟ್ಟು ಜಮೀನಿನ ಪಾಟಿರಾತು ಒಂದು ಜುಮ್ಮ ಅಥವಾ 28,70,061 ರೂಪಾಯಿಗಳ 'ಸಿಕ್ಕ್' ಬರಬಹುದೆಂದು ಗ್ರಹಿಸಲಾಗಿತ್ತು. ಆದರೆ ನಿಜವಾಗಿ ಜಮೀನಿನ ಬೆಲೆ ಒಂದು ಜುಮ್ಮ ಅಥವಾ 14,18,756 ಕ್ಕೆ ನಿರ್ಣಯಕ್ಕೆ ಮಾರಾಟವಾಯಿತು ಮತ್ತು ಕೊಂಡುಕೊಂಡ ಹಣದ ಮೂತ್ರವು 17,90,416 ರೂಪಾಯಿಗಳು 1204 ರಲ್ಲಿ 1797-98 ರ ಜೊತೆ ಸಮನಾಗಿ, ಪಾಟಿರಾತದ ಜಮೀನು 22,66,191 ಸಿಕ್ಕ್ ರೂಪಾಯಿಗಳಿಗೆ, ಮಾರಾಟವಾಗಿದ್ದು 22,74,076 ಸಿಕ್ಕ್ ರೂಪಾಯಿಗಳಿಗೆ ಮತ್ತು ಕೊಂಡುಕೊಂಡ ಹಣ 21,47,580 ಸಿಕ್ಕ್ ರೂಪಾಯಿಗಳು. ಸಾಲ ಮರು ಪಾವತಿಸದಿದ್ದವರಲ್ಲಿ ದೇಶದ ಕೆಲವು ಅತ್ಯಂತ ಹಿರಿಯ ಕುಟುಂಬಗಳಾದ ಸುಡ್ಡಿಯಾದ ರಾಜರುಗಳು ಇದ್ದರು. ರಾಜ ಶಾಯಿ, ಬಿಷನ್‌ಪೋರ (ಒಂಗಾಳದ ಎಲ್ಲಾ ಜಿಲ್ಲೆಗಳು) ಮತ್ತು ಇತರರು ತೋಟಗಳು ಪ್ರತಿ ವರ್ಷ ಕೊನೆ \* ಪೋಗಿ ಅವರಿಗೆ ಬಡತನ ಮತ್ತು ಅವನತಿಯ ಛೇದಿಯನ್ನು ಒಂಟುಮಾಡಿದರು, ಮತ್ತು ಕೆಲವು ಸಂದರ್ಭದಲ್ಲಿ ಸಾರ್ವಜನಿಕರ ನಿರ್ಣಯಗಳ ಪ್ರಮಾಣವನ್ನು ಉಳಿಸಿಕೊಳ್ಳುವ ಪ್ರಯತ್ನದಲ್ಲಿ ಕಂದಾಯ ಅಧಿಕಾರಿಗಳಿಗೆ ಸಂಕಷ್ಟ ಎದುರಾಯಿತು.

'ಐದನೇ ವರದಿ'ಯು ತಯಾರಿಸಲ್ಪಟ್ಟಿದ್ದು ಇವರಿಂದ :

- (1) ದ್ರೋಣ ರಾಣಿ
- (2) ಒಂದು ಆಯ್ಕೆ ಆಯೋಗ
- (3) ಭಾರತೀಯ ಜಮೀನ್ದಾರರ ಒಂದು ಆಯೋಗ
- (4) ದ್ರೋಣ ರಾಜ

Options :

112807119377 1

112807119378 2

112807119379 3

112807119380 4

Question Number : 250 Question Id : 11280729845 Question Type : MCQ Option Shuffling : No Is Question Mandatory : No Calculator : None

Response Time : N.A Think Time : N.A Minimum Instruction Time : 0

Correct Marks : 5 Wrong Marks : 1

Question Key Details :

Key	Value
Comprehension	Comp1

उत्तरा वाचा आणि प्रश्नांचे उत्तर लिहा :

### पाचव्या अहवालातून

जमिनदारांचो परिस्थिती व जमिनींचा लिलाव याचा संदर्भ देवून पाचव्या अहवालात खालील नोंदी आढळतात :

महसूल नियमितपणे भरला जात नव्हता आणि बऱ्याच जमिनी ठराविक कालांतराने लिलाव करून विकण्यासाठी उपलब्ध करून दिल्या जात होत्या. इ.स. 1796-97 म्हणजे शके 1203 मध्ये विक्रीसाठी उपलब्ध असलेल्या व जाहिरात केलेल्या जमिनींचा 'जुम्मा' किंवा मूल्यांकन होते सिक्का रुपये 28, 70, 061 तर प्रत्यक्षात विकलेल्या जमिनींचा 'जुम्मा' किंवा खरेदी रकमेचे मूल्यांकन होते 14, 18, 756 तर खरेदीची रक्कम होती सिक्का 17, 90, 416 रुपये. इ.स. 1797-98 मध्ये म्हणजे शके 1204 मध्ये विक्रीसाठी उपलब्ध असलेल्या जाहिरात केलेल्या जमिनींचे मूल्य 22, 66, 191 तर विक्रीची रक्कम सिक्का 22, 74, 076 रुपये व खरेदीची रक्कम सिक्का 21, 47, 580 रुपये होती. थकवाकीदारांमध्ये देशालीत जुन्या कुटुंबांचा उदाहरणार्थ नुझोयाचे राजे यांचा समावेश होता. राजेशाये, बिरोनपूर (बंगालचे सर्व जिल्हे) ... आणि इतर यांच्याबाबतून प्रत्येक वर्षाच्या शेवटी त्यांच्या मालमतेचे विभाजन होत होत त्यांच्या डोक्यावर दारिद्र्य आणि न्हास होण्याचा धोका होता. काही ठिकाणी तर महसूला अधिकाऱ्यांना सार्वजनिक मूल्यांकनाची रक्कम कायम राखण्यात अडचणी आल्या.

पाचवा अहवाल यांनी तयार केला होता :

- (1) ब्रिटीश राणी
- (2) निवडलेली समिती
- (3) भारतीय जमिनदारांची समिती
- (4) ब्रिटीश राजा

Options :

- 212807119377 1  
212807119378 2  
212807119379 3  
212807119380 4

Question Number : 250 Question Id : 21280719845 Question Type : MCQ Option Shuffling : No Is Question Mandatory : No Calculator : None  
Response Time : N.A Think Time : N.A Minimum Instruction Time : 0

Correct Marks : 5 Wrong Marks : 1

Question Key Details :

Key	Value
Comprehension	Comp2

താഴെ നൽകിയിരിക്കുന്ന ഖണ്ഡിക വായിച്ച് അതിനു താഴെയുള്ള ചോദ്യങ്ങൾക്ക് ഉത്തരമെഴുതുക. :

**അഞ്ചാം റിപ്പോർട്ടിൽ നിന്ന്**

സെമിനാർമാരുടെ അവസ്ഥയും ഭൂലേലവുമായി ബന്ധപ്പെട്ട് അഞ്ചാം റിപ്പോർട്ട് ഇങ്ങനെ പറയുന്നു :

വരുമാനം കൃത്യമായി വീതിച്ചു നൽകിയിരുന്നില്ലെന്നും ഭൂമി കൃത്യമായ ഇടവേളകളിൽ വിൽപ്പനയും നടത്താം 1796-97 ലെ കണക്കുകൾ താരതമ്യം ചെയ്താൽ, 1203 ലെ ഇവയുടെ (സ്ഥലത്തിന്റെ) സിക്ക (പണം) 28.70 61 സ്ഥലം വിറ്റു ജു. 14 - 18 756 വാങ്ങിയ സിക വില 17.90.416 ആയിരുന്നു. 1204 തുരൻ 1797 ൽ പരസ്യപ്പെടുത്തിയത് പ്രകാരം സിക്ക. രൂപ 22.66.191 സിക്കയായി വിറ്റ അളവ് 2214. 076 മേടിച്ചത് 2147.580 കടക്കാലായവർ തിക്തവാനും പഴയ കൃടുംബങ്ങളായിരുന്നു. നെടിയ രാജാക്കന്മാരെ പോലെ ബംഗാളിലെ ജില്ലകളായ രാജ്ഷി ബിഷൻപൂർ ഇത്തരത്തിലുള്ള സംഭവവികാസങ്ങൾ നികൃതി പിരിക്കുന്നവർക്ക് പിന്നീട് പ്രശ്നമായി തീർന്നു. അവരുടെ പ്രവർത്തനം കൊണ്ട് പൊതുജനത്തിന്റെ സ്വത്ത് നശിക്കാതെ കാത്തു

അഞ്ചാം റിപ്പോർട്ട് രൂപപ്പെടുത്തിയത് :

- (1) ബ്രിട്ടീഷ് രാജ്ഞി
- (2) തിരഞ്ഞെടുത്ത കമ്മിറ്റി
- (3) ഇന്ത്യൻ ഭൂപ്രഭുക്കന്മാരുടെ ഒരു കൂട്ടം
- (4) ബ്രിട്ടീഷ് രാജാവ്

Options :

- 112807119377 1
- 212807119378 2
- 212807119379 3
- 212807119380 4

Question Number : 250 Question Id : 21280729845 Question Type : MCQ Option Skuffling : No Is Question Mandatory : No Calculator : None  
Response Time : N.A Think Time : N.A Minimum Instruction Time : 0  
Correct Marks : 5 Wrong Marks : 1  
Question Key Details :

Key	Value
Comprehension	Comp2

ଅନୁଲେଖନୀୟ ପଦ୍ମ ଏବଂ ନିମ୍ନଲିଖିତ ପୁସ୍ତକ ଉଭୟ ବିଅରୁ ।

**ପଞ୍ଚମ ରିପୋର୍ଟରୁ**

କର୍ମଚାରୀମାନଙ୍କର ଅବସ୍ଥା ଏବଂ କର୍ମ ନିର୍ବାହ ପ୍ରସଙ୍ଗରେ ପଞ୍ଚମ ରିପୋର୍ଟ ଦର୍ଶାଇଥିଲା :

ରାଜସ୍ୱ ଆୟ ପିଲା ସମୟରେ ଆବୀକ୍ଷ୍ୟ କରାଯାଇ ନଥିଲା ଏବଂ ଏହୁ ପରିମାଣରେ କର୍ମଚାରୀଙ୍କ ନିର୍ବାହ କରାଯାଇଥିଲା । 1203 ମସିହାରେ ଏବଂ 1796-97 ମସିହାରେ ମଧ୍ୟ ଯେଉଁ କର୍ମଚାରୀଙ୍କ ବିକ୍ରି ହେବୁ ବିକ୍ରୟକ ବିଆଯାଇଥିଲା ଏକ ନୂଆ/ଯାହାକି ଡିଏଲ୍ ନୁପିଲ୍ 28, 70, 061, ଉଚ୍ଚ ହୁଆର ପର୍ଯ୍ୟ ଏକ ଉଚ୍ଚ/ 14, 18, 756 ଏବଂ ବିକ୍ରିରୁ ମିଳିଥିବା ମୂଲ୍ୟ ବା ପଇସା ଡିଏଲ୍ 17, 90, 416 । 1204 ଏବଂ 1797-98 ଯେଉଁ କର୍ମଚାରୀଙ୍କ ବିକ୍ରୟକ ବିଆଯାଇଥିଲା ଚାନ୍ଦାର ମୂଲ୍ୟ ଡିଏଲ୍/ ନୁପିଲ୍ 22, 66, 191 ଯେଉଁ ପରିମାଣର ବିକ୍ରି ହୋଇଥିଲା ଚାନ୍ଦାର ମୂଲ୍ୟ ଡିଏଲ୍/ ନୁପିଲ୍ 22, 74, 076 ଏବଂ ବିକ୍ରୟକ ବିଆ ପଇସା ଡିଏଲ୍/ ନୁପିଲ୍, 21, 47, 580 । ବିରୁଦ୍ଧ କରିଥିବା ବ୍ୟକ୍ତିମାନଙ୍କ ମଧ୍ୟରେ ଦେଶର କିଛି ସବୁଠାରୁ ପୁରୁଣା ପରିବାର ଥିଲେ, ସେମାନେ ନୂତନତର ଭାଗ୍ୟମାନେ । ଶାନ୍ତକ୍ଷୟ, ବିଶେଷପୋର (ବେଙ୍ଗାଳର ସମସ୍ତ ଜିଲ୍ଲା) ଏବଂ ଅନ୍ୟ, ଯେଉଁମାନଙ୍କର ରୁସୁଗାଠି କ୍ରମାନ୍ୱୟରେ ହ୍ରାସ ପାଇଥିଲା । ସେମାନଙ୍କୁ ଦାରିଦ୍ର୍ୟ ନଷ୍ଟ କରିଦେବା ବୋଲି ଚିନ୍ତା କରାଯାଇଥିଲା ଏବଂ କିଛି କ୍ଷେତ୍ରରେ ରାଜସ୍ୱ ଆୟ କର୍ମଚାରୀମାନଙ୍କୁ କଳ୍ପ କର ଆଦାୟ ସୁରକ୍ଷା କରିବାରେ ଅସୁବିଧା ହେଇଥିଲା ।

‘ପଞ୍ଚମ ରିପୋର୍ଟ’ କେଉଁ ବ୍ୟକ୍ତିଙ୍କ ଦ୍ୱାରା ପ୍ରସ୍ତାବିତ ହୋଇଥିଲା :

- (1) ବ୍ରିଟିଶ ରାଜା
- (2) ଯେନିତ୍ କର୍ମଚୀ
- (3) ଭାରତୀୟ କର୍ମଚାରୀମାନଙ୍କର କର୍ମଚୀ
- (4) ବ୍ରିଟିଶ ରାଜା

Options :

- 212807119377 1
- 212807119378 2
- 212807119379 3
- 212807119380 4

Question Number : 250 Question Id : 21280719845 Question Type : MCQ Option Shuffling : No Is Question Mandatory : No Calculator : None  
Response Time : N.A Think Time : N.A Minimum Instruction Time : 0  
Correct Marks : 5 Wrong Marks : 1  
Question Key Details :

Key	Value
Comprehension	Comp2



ਪੈਰੋ ਨੂੰ ਪੜ੍ਹੋ ਅਤੇ ਨਿਮਨਲਿਖਤ ਪ੍ਰਸ਼ਨ ਦੇ ਉਤਰ ਦਿਓ।

From the Fifth report

ਜ਼ਿੰਮੀਦਾਰਾਂ ਦੀ ਹਾਲਤ ਅਤੇ ਜ਼ਮੀਨ ਦੀ ਨਿਲਾਮੀ ਨੂੰ ਦਰਸਾਉਂਦੀ, ਪੰਜਵੀਂ ਰਿਪੋਰਟ ਨੇ ਕਿਹਾ :

ਕਰਾਂ ਦੀ ਅਦਾਇਗੀ ਇਮਾਨਦਾਰੀ ਨਾਲ ਨਾ ਕਰਨ ਕਰਕੇ ਜ਼ਮੀਨ ਨੂੰ ਨਿਲਾਮ ਕਰਦੇ ਵੇਚਣ ਲਈ ਵਿਚਾਰਣਯੋਗ ਹੋਣਾ ਪਿਆ। 1203 ਦੇ ਸਾਲ ਦੇ ਮੁਕਾਬਲੇ 1796-97 ਵਿਚ, ਜ਼ਮੀਨ ਨੂੰ ਵੇਚਣ ਲਈ 'ਸੁਮਾ' ਦੇ ਆਧਾਰ ਤੇ ਇਸ਼ਤਿਹਾਰ ਦਿਤਾ ਗਿਆ। 1204 ਵਿਚ ਇਹ ਸਿੱਕਿਆਂ ਦਾ ਅੰਦਾਜ਼ਨ ਲਗਾਇਆ ਗਿਆ ਕਿ 28, 70, 061 ਵਿਚ ਵਿਕੇਗੀ ਪਰ ਜ਼ਮੀਨ ਦੀ ਹੱਦ 'ਸੁਮੇ' ਵਿਚ ਵਿਕੀ ਇਸਦੀ ਕੀਮਤ 14, 18, 756 ਸੀ ਅਤੇ 'ਸਿੱਕੇ' ਨੂੰ ਖਰੀਦਣ ਦੀ ਕੀਮਤ 17, 90, 416 ਸੀ। 1797-98 ਅਨੁਸਾਰ ਜ਼ਮੀਨ ਦੀ ਇਸ਼ਤਿਹਾਰੀ ਕੀਮਤ 'ਸਿੱਕਾ' ਰੁਪਏ ਵਿਚ 22, 66, 191, ਸਿੱਕਿਆਂ ਦੀ ਮਾਤਰਾ 22, 74, 076 ਵਿੱਚ ਵੇਚੇ ਗਏ ਅਤੇ 21, 47, 580 ਰੁਪਏ ਵਿਚ 'ਸਿੱਕਾ' ਰੁਪਏ ਵੇਚੇ ਗਏ। ਦੇਸ਼ ਦੇ ਸਭ ਤੋਂ ਪੁਰਾਣੇ ਪਰਿਵਾਰ ਦੋਸ਼ੀਆਂ ਦੀ ਸੂਚੀ ਵਿਚ ਸ਼ਾਮਲ ਸਨ, ਜਿਹੜੇ ਕਿ ਨੌਦਿਆਂ ਦੇ ਰਾਜੇ ਸਨ। ਰਾਜੇਸ਼ੇਅ, ਬਿਸ਼ਦਪੁਰ (ਬੰਗਾਲ ਦੇ ਸਾਰੇ ਜਿਲੇ) ਅਤੇ ਹੋਰਾਂ ਦੇ ਇਲਾਕੇ ਵੰਡ ਨਾਲ ਅਲੱਗ ਕਰ ਦਿੱਤੇ ਗਏ। ਉਨ੍ਹਾਂ ਨੂੰ ਗ਼ਰੀਬੀ ਅਤੇ ਉਜਾੜੇ ਲਈ ਧਮਕਾਇਆ ਗਿਆ। ਕੁਝ ਉਦਾਹਰਨਾਂ ਵਿਚ ਕਰ ਅਫ਼ਸਰਾਂ ਦੁਆਰਾ ਕਰ ਇਕੱਤਰ ਕਰਨ ਦੀਆਂ ਮੁਸ਼ਕਲਾਂ ਨੂੰ ਦਰਸਾਇਆ ਗਿਆ ਜਿਹੜੇ ਜਨਤਕ ਮੁਲਾਂਕਣ ਦੀ ਮਾਤਰਾ ਨੂੰ ਘੱਟੋ ਘੱਟ ਸੁਰੱਖਿਅਤ ਰੱਖਣ ਦੇ ਆਪਣੇ ਜਤਨ ਕਰਦੇ ਸੀ।

'ਪੰਜਵੀਂ ਰਿਪੋਰਟ' ਤਿਆਰ ਕੀਤੀ ਸੀ :

- (1) ਬ੍ਰਿਟਿਸ਼ ਰਾਣੀ ਦੁਆਰਾ।
- (2) ਇਕ ਕਮੇਟੀ ਦੀ ਚੋਣ ਕਰਕੇ।
- (3) ਭਾਰਤੀ ਜ਼ਿੰਮੀਦਾਰਾਂ ਦੀ ਕਮੇਟੀ ਨੇ।
- (4) ਬ੍ਰਿਟਿਸ਼ ਰਾਜੇ ਨੇ।

Options :

- 112807119377 1  
112807119378 2  
112807119379 3  
112807119380 4

Question Number : 250 Question Id : 11280719845 Question Type : MCQ Option Shuffling : No Is Question Mandatory : No Calculator : None  
Response Time : N.A Think Time : N.A Minimum Instruction Time : 0

Correct Marks : 5 Wrong Marks : 1

Question Key Details :

Key	Value
Comprehension	Comp2

கீழ்க்காணும் பத்தியைப் படித்து வினாக்களுக்கு விடையளிக்கவும்.

(ஐந்தாம் அறிக்கையில் இருந்து எடுக்கப்பட்டது)

ஐமீன்தாரர்களின் நிலைமை மற்றும் நிலங்கள் ஏலம் விடப்பட்டது குறித்து ஐந்தாவது அறிக்கை கூறியதாவது :

காலந்தவறாமல் வருமானம் வசூலிக்கப்பட்டது; நிலங்கள் இயன்ற அளவிற்கு குறிப்பிட்ட கால இடைவெளியில் ஏலம் விடப்பட்டன. சொந்த ஆண்டு 1203 (இந்திய ஆண்டு) அதாவது 1796 - 97 -ல் விற்பனைக்கு அறிவிக்கப்பட்ட நிலத்தின் மீது ஜூம்மா என்ற மதிப்பீடு "சிக்கா" ரூபாய் 28,70,061 சேகரிக்கப்பட்டது; இதில் மதிப்பீடு சிக்கா ரூபாய் 14,18,576 மற்றும் விலைக்கு வாங்கப்பட்ட மதிப்பு சிக்கா ரூபாய் 17,90,416 ஆகும். 1204 -ல், அதாவது 1797-98 -ல் விற்பனைக்கு அறிவிக்கப்பட்ட நிலத்தின் மதிப்பு சிக்கா ரூபாய் 22,66,191; நிலம் விற்கப்பட்டதன் மதிப்பு சிக்கா ரூபாய் 22,74,076. வாங்கப்பட்ட நில மதிப்பு 21,47,580. நூடியா, ராஜஷாயி, போன்ற நாட்டின் மிகப் பழமையான குடும்பங்கள் பணம் செலுத்த தவறியவர்கள் பட்டியலில் இருந்தனர். ராஜஷாயி, பிஷன்பூர் (அனைத்தும் வங்காளத்தின் மாவட்டங்கள்) ஒவ்வொரு ஆண்டின் முடிவிலும் துண்டாடப்பட்ட பெரும் நிலப்பரப்பின் உரிமையாளர்கள் ஏழ்மை மற்றும் அழிவு கொண்டு அச்சுறுத்தப்பட்டனர். சில நேரங்களில் வருவாய் அதிகாரிகளுக்கு, தங்கள் முயற்சியில் பொது மதிப்பீட்டு தொகையை குறையாமல் பார்த்துக் கொள்ள வேண்டிய நிலைக்குத் தள்ளப்பட்டனர்.

ஐந்தாவது அறிக்கை உருவாக்கியது :

- (1) பிரிட்டிஷ் அரசியார்
- (2) ஒரு தெரிவு கமிட்டி
- (3) இந்திய ஐமீன்தாரர்களின் ஒரு கமிட்டி
- (4) பிரிட்டிஷ் அரசர்

Options :

212807119377-1

212807119378-2

212807119379-3

212807119380-4

Question Number : 250 Question Id : 21280719645 Question Type : MCQ Option Shuffling : No Is Question Mandatory : No Calculator : None

Response Time : N/A Think Time : N/A Minimum Instruction Time : 0

Correct Marks : 5 Wrong Marks : 1

Question Key Details :

Key	Value
Comprehension	Comp1

గద్యాంశం చదివి ప్రశ్నకు సమాధానం ఇవ్వండి :

(ఐదవ రిపోర్టు నుండి)

ఆమిందారులు మరియు భూమి వేలం పరిస్థితులను నూచించి ఐదవ రిపోర్టు ఇలా చెప్పింది :

రాబడి సకాలంలో రావడం లేదు మరియు చాలామట్టకు భూములు వేలం పొటతో అమ్ముడానికి పెట్టబడ్డాయి. 1203 సంవత్సరంలో, 1796-97 కు అనుసంధాన, అమ్ముడానికి ప్రకటించిన నేల అమ్ము లేదా సిక్యా యొక్క మూల్యాంకనం 28, 70, 061, యదార్థంగా అమ్ముబడిన నేల అమ్ము లేదా మూల్యాంకనం 14, 18, 756, మరియు ఖరీదు ధన మొత్తం సిక్యా రూపాయలు 17, 90, 416. 1204 లో, 1797-98 కు అనుసంధాన, అమ్ముడానికి ప్రకటించిన నేల అమ్ము లేదా సిక్యా యొక్క మూల్యాంకనం 22, 66, 191, యదార్థంగా అమ్ముబడిన నేల అమ్ము లేదా మూల్యాంకనం 22, 74, 076 మరియు ఖరీదు ధన మొత్తం సిక్యా రూపాయలు 21, 47, 580. అవరాధులలో కొందరు సుద్ధియా రాజుల వంటి దేశ పురాతన కుటుంబం వారు, రాజకాయ, వీషహం (ఐంగాల్ లోని అన్నీ జిల్లాలు) మరియు మిగతావి, ప్రతి తర్వాతి సంవత్సరం చివర వారి ఎస్టేట్లు విడదీయడం వారికి పేదరికం మరియు వినాశన భయాన్ని మరియు కొన్నింటిలో ప్రజా మూల్యాంక తగ్గిన మొత్తాన్ని సందర్శించడంలో రెవెన్యూ అధికారులకు ఇబ్బందులను కలిగించాయి.

ఐదవ రిపోర్టు ప్రవేశపెట్టింది ఎవరు ?

- (1) బ్రిటిష్ రాజ్
- (2) ఒక మేలైన కమిటీ
- (3) భారతీయ ఆమిందారుల కమిటీ
- (4) బ్రిటిష్ రాజు

Options :

212807119377-1

212807119378-2

212807119379-3

212807119380-4

Question Number : 250 Question Id : 21280719545 Question Type : MCQ Option Shuffling : No Is Question Mandatory : No Calculator : None

Response Time : N.A Think Time : N.A Minimum Instruction Time : 0

Correct Marks : 5 Wrong Marks : 1

Question Key Details :

Key	Value
Comprehension	Comp2

پانچویں رپورٹ سے لئے گئے اقتباس کو پڑھیں اور سوالات کا جواب دیں۔

زمیندار کی حالت اور زمین کی نیلامی کا حوالہ دیتے ہوئے رپورٹ کہتا ہے:

زمینی منافع پابندی سے نہیں نکالا گیا اور عام طور سے زمینوں کی نیلامی کی گئی وہی سال 1203 بمطابق 97-1796 زمین جو سیل کے لگائی گئی اس کا اندازاً ہم (Jumm) 20,70,061 سکہ روپیہ تھا۔ جبکہ اصل زمین کی فروخت جو ہم (Jumm) پر مشتمل تھی وہ اندازاً 14,10,756 تھا اور جو بیسہ سکا اس کے فروخت کرنے پر لیا وہ تقریباً 17,90,416 تھا۔

1204 بمطابق 90-1797 میں زمین اشتہار کی گئی۔ 22,66,191 کے روپیہ (سکا) کے لئے اس میں 22,74,076 روپے لئے گئے۔

ڈیٹا لٹرز میں ملک کی کچھ بڑے پرانے خاندان تھے جیسے کہ راجہ نو دلہر (Nudeler) راجپوت اور بسین پور، بنگال کے تمام اضلاع اور کچھ علاوہ جن کی ریاستیں الگ الگ شتم ہو گئی اور ہر آنے والے سال فرسبی نے دستک دی۔ اور کسی حد تک دیو پو آ میسر کے لئے مشکل ہو گیا کہ وہ کم نہ ہونے والے عوامی مالیت کی حفاظت کر سکیں۔ پانچویں رپورٹ اس کی پیداوار تھی۔

(1) برطانوی رانی

(2) ایک مخصوص کمیٹی

(3) ہندوستانی زمینداروں کی ایک کمیٹی

(4) برطانوی راج

Options :

112807119377 1

112807119378 2

112807119379 3

112807119380 4

### General Test

Group Number :	0
Group Id :	212807645
Group Maximum Duration :	60
Group Minimum Duration :	60
Show Attended Group? :	No
Edit Attended Group? :	No
Break time :	0
Group Marks :	250
Is this Group for Examiner? :	No
Examiner permission :	Can View
Show Progress Bar? :	No

### General Test

Section Id :	212807783
Section Number :	1
Section type :	Online
Mandatory or Optional :	Mandatory
Number of Questions :	60
Number of Questions to be attempted :	60
Section Marks :	250
Enable Mark as Answered Mark for Review and Clear Response :	Yes
Maximum Instruction Time :	0
Sub-Section Number :	1

Sub-Section Id :

2128072165

Question Shuffling Allowed :

Yes

Is Section Default? :

null

Question Number : 251 Question Id : 21280729736 Question Type : MCQ Option Shuffling : No Is Question Mandatory : No Calculator : None  
Response Time : N.A Think Time : N.A Minimum Instruction Time : 0

Correct Marks : 5 Wrong Marks : 1

Question Key Details :

Key	Value
Comprehension	MCQ

If  $x$  is inversely proportional to  $y$  and  $y$  is directly proportional to  $z$ , then  $xz$  is :

- (1) Directly proportional to  $y$
- (2) Inversely proportional to  $y$
- (3) Constant
- (4) Directly proportional to  $y^2$

Options :

212807118941 1

212807118942 2

212807118943 3

212807118944 4

Question Number : 251 Question Id : 21280729736 Question Type : MCQ Option Shuffling : No Is Question Mandatory : No Calculator : None  
Response Time : N.A Think Time : N.A Minimum Instruction Time : 0

Correct Marks : 5 Wrong Marks : 1

Question Key Details :

Key	Value
Comprehension	MCQ

यदि  $x, y$  का व्युत्क्रमानुपाती है और  $y, z$  का अनुक्रमानुपाती है तो  $xz$  है।

- (1)  $y$  का अनुक्रमानुपाती
- (2)  $y$  का व्युत्क्रमानुपाती
- (3) नियतांक
- (4)  $y^2$  का अनुक्रमानुपाती

Options :

212807118941 1

212807118942 2

212807118943 3

212807118944 4

Question Number : 251 Question Id : 21280729736 Question Type : MCQ Option Shuffling : No Is Question Mandatory : No Calculator : None  
Response Time : N.A Think Time : N.A Minimum Instruction Time : 0

Correct Marks : 5 Wrong Marks : 1

Question Key Details :

Key	Value
Comprehension	MCQ

यदि  $x, y$  व वास्तुनूपतिक आरु  $y, z$  व समनूपतिक, तेउते  $xz$  हैहे :

- (1) प्रत्यक्षतारे  $y$  व समनूपतिक
- (2)  $y$  व वास्तुनूपतिक
- (3) शून्य
- (4)  $y^2$  व समनूपतिक

Options :

212807118941 1  
212807118942 2  
212807118943 3  
212807118944 4

Question Number : 251 Question Id : 21280729736 Question Type : MCQ Option Shuffling : No Is Question Mandatory : No Calculator : None  
Response Time : N.A Think Time : N.A Minimum Instruction Time : 0

Correct Marks : 5 Wrong Marks : 1

Question Key Details :

Key	Value
Comprehension	MCQ

যদি  $x$ -এর সাথে  $y$  বাস্তবপাতের  $y$ ,  $z$ -এর সমানুপাতের থাকে তাহলে  $xz$  হল —

- (1)  $y$ -এর সাথে সমানুপাত
- (2)  $y$ -এর বাস্তবপাত
- (3) ধ্রুবক
- (4)  $y^2$ -এর সমানুপাত

Options :

212807118941 1  
212807118942 2  
212807118943 3  
212807118944 4

Question Number : 251 Question Id : 21280729736 Question Type : MCQ Option Shuffling : No Is Question Mandatory : No Calculator : None  
Response Time : N.A Think Time : N.A Minimum Instruction Time : 0

Correct Marks : 5 Wrong Marks : 1

Question Key Details :

Key	Value
Comprehension	MCQ

যদি  $x$  ও  $y$ -এর ব্যস্তপ্রমাণের  $x$  এবং  $y$  ও  $z$ -এর সমপ্রমাণের  $xy$  হয় তবে  $xz$  হবে —

- (1)  $y$ -এর সমপ্রমাণের
- (2)  $y$ -এর ব্যস্তপ্রমাণের
- (3) অমূল্য
- (4)  $y^2$ -এর সমপ্রমাণের

Options :

212807118941 1  
212807118942 2  
212807118943 3  
212807118944 4

Question Number : 251 Question Id : 21280729736 Question Type : MCQ Option Shuffling : No Is Question Mandatory : No Calculator : None  
Response Time : N.A Think Time : N.A Minimum Instruction Time : 0

Correct Marks : 5 Wrong Marks : 1

Question Key Details :

Key	Value
Comprehension	MCQ

$x$  യും  $y$  ന്റെ അനുലോമം അനുപാതവാദരും  $y$  യും  $z$  ന്റെ വിലോമം അനുപാതവാദരും ആണെങ്കിൽ  $xz$  യും :

- (1)  $y$  ന്റെ വിലോമം അനുപാതവാദരും ആണ്.
- (2)  $y$  ന്റെ അനുലോമം അനുപാതവാദരും ആണ്.
- (3) സ്ഥിരമാണ്.
- (4)  $y^2$  ന്റെ വിലോമം അനുപാതവാദരും ആണ്.

Options :

- 212807118941 1  
212807118942 2  
212807118943 3  
212807118944 4

Question Number : 251 Question Id : 21280729736 Question Type : MCQ Option Shuffling : No Is Question Mandatory : No Calculator : None  
Response Time : N.A Think Time : N.A Minimum Instruction Time : 0  
Correct Marks : 5 Wrong Marks : 1

Question Key Details :

Key	Value
Comprehension	MCQ

അ  $x$  ന്റെ  $y$  ന്റെ വിലോമം അനുപാതവാദരും  $y$  ന്റെ  $z$  ന്റെ വിലോമം അനുപാതവാദരും ആണെങ്കിൽ  $xz$  ന്റെ :

- (1)  $y$  ന്റെ വിലോമം അനുപാതവാദരും ആണ്.
- (2)  $y$  ന്റെ അനുലോമം അനുപാതവാദരും ആണ്.
- (3) സ്ഥിരമാണ്.
- (4)  $y^2$  ന്റെ വിലോമം അനുപാതവാദരും ആണ്.

Options :

- 212807118941 1  
212807118942 2  
212807118943 3  
212807118944 4

Question Number : 251 Question Id : 21280729736 Question Type : MCQ Option Shuffling : No Is Question Mandatory : No Calculator : None  
Response Time : N.A Think Time : N.A Minimum Instruction Time : 0  
Correct Marks : 5 Wrong Marks : 1

Question Key Details :

Key	Value
Comprehension	MCQ

$x$  ,  $y$  യുമായി വിപരീത അനുപാതത്തിലും  $y$  ,  $z$  മായി നേരി അനുപാതത്തിലും ആണെങ്കിൽ,  $xz$  ന്റെ :

- (1)  $y$  യുമായി നേരി അനുപാതത്തിൽ ആണ്.
- (2)  $y$  യുമായി വിപരീത അനുപാതത്തിൽ ആണ്.
- (3) സ്ഥിരമാണ്.
- (4)  $y^2$  മായി നേരി അനുപാതത്തിൽ ആണ്.

Options :

- 212807118941 1  
212807118942 2  
212807118943 3  
212807118944 4

Question Number : 251 Question Id : 21280729736 Question Type : MCQ Option Shuffling : No Is Question Mandatory : No Calculator : None  
Response Time : N.A Think Time : N.A Minimum Instruction Time : 0  
Correct Marks : 5 Wrong Marks : 1

## Question Key Details :

Key	Value
Comprehension	MCQ

ଯଦି  $x, y$  ସହିତ ପ୍ରତିଲୋମ ସମାନୁପାତି (inversely proportional) ଏବଂ  $y, z$  ସହିତ ସମାନୁପାତି, ତାହାହେଲେ  $xz$  କ'ଣ ହେବ ?

- (1)  $y$  ସହିତ ସମାନୁପାତି
- (2)  $y$  ସହିତ ପ୍ରତିଲୋମ ସମାନୁପାତି
- (3) ଧୂଳି
- (4)  $y^2$  ସହିତ ସମାନୁପାତି

## Options :

212807118941 1  
212807118942 2  
212807118943 3  
212807118944 4

Question Number : 251 Question Id : 21280729736 Question Type : MCQ Option Shuffling : No Is Question Mandatory : No Calculator : None  
Response Time : N.A Think Time : N.A Minimum Instruction Time : 0

Correct Marks : 5 Wrong Marks : 1

## Question Key Details :

Key	Value
Comprehension	MCQ

ନେକ  $x, y$  ଦି ଉଲଟ ଅନୁପାତୀ ହିଁ ଓ  $y$  ସିଂଘି ଡିଟ ଓ  $z$  ଦି ଅନୁପାତୀ ହିଁ ଓ  $xz$  ହିଁ :

- (1) ସିଂଘି  $y$  ଦି ଅନୁପାତୀ ହିଁ ।
- (2) ଉଲଟା  $y$  ଦି ଅନୁପାତୀ ହିଁ ।
- (3) ଧୂଳି/ଦ୍ୱିତ
- (4)  $y^2$  ଦା ସିଂଘା ଅନୁପାତୀ ହିଁ ।

## Options :

212807118941 1  
212807118942 2  
212807118943 3  
212807118944 4

Question Number : 251 Question Id : 21280729736 Question Type : MCQ Option Shuffling : No Is Question Mandatory : No Calculator : None  
Response Time : N.A Think Time : N.A Minimum Instruction Time : 0

Correct Marks : 5 Wrong Marks : 1

## Question Key Details :

Key	Value
Comprehension	MCQ

$x$  ଶନ୍ଧପତୁ  $y$  କ୍ତୁ ନେର୍ଯ୍ୟାହାନ୍ ଶିକିତାସାଫତ୍ତିଲୁଂ ,  $y$  ଶନ୍ଧପତୁ  $z$  କ୍ତୁ ନେର୍ ଶିକିତାସାଫତ୍ତିଲୁଂ ଇନ୍ଦ୍ରନ୍ତାଲ୍,  $xz$  ଶନ୍ଧପତୁ :

- (1)  $y$  କ୍ତୁ ନେର୍ ଶିକିତାସାଫତ୍ତିଲ୍
- (2)  $y$  କ୍ତୁ ନେର୍ଯ୍ୟାହାନ୍ ଶିକିତାସାଫତ୍ତିଲ୍
- (3) ନିଶାଲ ଶନ୍ଧ
- (4)  $y^2$  କ୍ତୁ ନେର୍ ଶିକିତାସାଫତ୍ତିଲ୍

## Options :

212807118941 1



212807118941 1  
212807118943 3  
212807118944 4

Question Number : 251 Question Id : 21280729736 Question Type : MCQ Option Shuffling : No Is Question Mandatory : No Calculator : None  
Response Time : N.A Think Time : N.A Minimum Instruction Time : 0

Correct Marks : 5 Wrong Marks : 1

Question Key Details :

Key	Value
Comprehension	MCQ

ఒకవేళ  $y$  కి  $x$  విలోమానుపాతంలో మరియు  $z$  కి  $y$  అనులోమానుపాతంలో ఉంటే  $x:z$  అనేది :

- (1)  $y$  కి అనులోమానుపాతంలో ఉంటుంది
- (2)  $y$  కి విలోమానుపాతంలో ఉంటుంది
- (3) స్థిరాంకం
- (4)  $y^2$  కి అనులోమానుపాతంలో ఉంటుంది

Options :

212807118941 1  
212807118942 2  
212807118943 3  
212807118944 4

Question Number : 251 Question Id : 21280729736 Question Type : MCQ Option Shuffling : No Is Question Mandatory : No Calculator : None  
Response Time : N.A Think Time : N.A Minimum Instruction Time : 0

Correct Marks : 5 Wrong Marks : 1

Question Key Details :

Key	Value
Comprehension	MCQ

అگر  $x$  متضاد کتاب ہے  $y$  کے لیے اور  $y$  براہ راست کتاب ہے  $z$  کے لیے تو  $x:z$  ہے :

- (1)  $y$  کے لیے براہ راست کتاب
- (2)  $y$  کے لیے متضاد کتاب
- (3) مستقل
- (4)  $y^2$  کے لیے براہ راست کتاب

Options :

212807118941 1  
212807118942 2  
212807118943 3  
212807118944 4

Question Number : 251 Question Id : 21280729737 Question Type : MCQ Option Shuffling : No Is Question Mandatory : No Calculator : None  
Response Time : N.A Think Time : N.A Minimum Instruction Time : 0

Correct Marks : 5 Wrong Marks : 1

Question Key Details :

Key	Value
Comprehension	MCQ

Find the fraction which bears the same ratio to  $\frac{1}{27}$  that  $\frac{3}{11}$  does to  $\frac{5}{9}$ .

(1)  $\frac{15}{99}$

(2)  $\frac{1}{729}$

(3)  $\frac{1}{55}$

(4)  $\frac{33}{40}$

Options :

112807118945.1

112807118946.2

112807118947.3

112807118948.4

Question Number : 252 Question Id : 21280729737 Question Type : MCQ Option Shuffling : No Is Question Mandatory : No Calculator : None  
Response Time : N.A Think Time : N.A Minimum Instruction Time : 0

Correct Marks : 5 Wrong Marks : 1

Question Key Details :

Key	Value
Comprehension	MCQ

ऐसी भिन्न ज्ञात कीजिए जिसका  $\frac{1}{27}$  के साथ वही अनुपात है, जो  $\frac{3}{11}$  का  $\frac{5}{9}$  के साथ है।

(1)  $\frac{15}{99}$

(2)  $\frac{1}{729}$

(3)  $\frac{1}{55}$

(4)  $\frac{33}{40}$

Options :

112807118945.1

112807118946.2

112807118947.3

112807118948.4

Question Number : 252 Question Id : 21280729737 Question Type : MCQ Option Shuffling : No Is Question Mandatory : No Calculator : None  
Response Time : N.A Think Time : N.A Minimum Instruction Time : 0

Correct Marks : 5 Wrong Marks : 1

Question Key Details :

Key	Value
Comprehension	MCQ

$\frac{1}{27}$ ,  $\frac{3}{11}$  বা  $\frac{5}{9}$  ৰ লগত যি অনুপাত সেই একে অনুপাত বহন কৰা ভগ্নাংশটো হৈছে :

(1)  $\frac{15}{99}$

(2)  $\frac{1}{729}$

(3)  $\frac{1}{55}$

(4)  $\frac{33}{40}$

Options :

212807118945 1

212807118946 2

212807118947 3

212807118948 4

Question Number : 252 Question Id : 21280719737 Question Type : MCQ Option Shuffling : No Is Question Mandatory : No Calculator : None  
Response Time : N.A Think Time : N.A Minimum Instruction Time : 0

Correct Marks : 5 Wrong Marks : 1

Question Key Details :

Key	Value
Comprehension	MCQ

যে ভগ্নাংশটি  $\frac{1}{27}$  -এৰ সৈতে একেই অনুপাত বহন কৰে যা  $\frac{3}{11}$  -এৰ সৈতে  $\frac{5}{9}$  -এৰ অনুপাত সম্পর্কিত তা নিৰ্ণয় কৰো।

(1)  $\frac{15}{99}$

(2)  $\frac{1}{729}$

(3)  $\frac{1}{55}$

(4)  $\frac{33}{40}$

Options :

212807118945 1

212807118946 2

212807118947 3

212807118948 4

Question Number : 252 Question Id : 21280719737 Question Type : MCQ Option Shuffling : No Is Question Mandatory : No Calculator : None  
Response Time : N.A Think Time : N.A Minimum Instruction Time : 0

Correct Marks : 5 Wrong Marks : 1

Question Key Details :

Key	Value
Comprehension	MCQ

ಇಂ ಗುಣೋತ್ತರ  $\frac{3}{11}$  ನೊ  $\frac{5}{9}$  ಥೊ ಲೆ, ತೊ  $\frac{1}{27}$  ನೊ ಸಮಾನ ಗುಣೋತ್ತರ ಖರಾವಲೊ ಭಾಗ ಸೊಧೊ.

(1)  $\frac{15}{99}$

(2)  $\frac{1}{729}$

(3)  $\frac{1}{55}$

(4)  $\frac{33}{40}$

Options :

212807118945 1

212807118946 2

212807118947 3

212807118948 4

Question Number : 251 Question Id : 21280719737 Question Type : MCQ Option Shuffling : No Is Question Mandatory : No Calculator : None  
Response Time : N.A Think Time : N.A Minimum Instruction Time : 0

Correct Marks : 5 Wrong Marks : 1

Question Key Details :

Key	Value
Comprehension	MCQ

$\frac{3}{11}$  ಯು  $\frac{5}{9}$  ನೊ ಮೂಡುವ ಲೀತಿಯಲ್ಲೆ:  $\frac{1}{27}$  ಕೊಡುವ ಒಂದೆ ಆನುಪಾತದ ಭಿನ್ನಾಂಕವನ್ನು ಪತ್ತೆ ಹಚ್ಚಿ.

(1)  $\frac{15}{99}$

(2)  $\frac{1}{729}$

(3)  $\frac{1}{55}$

(4)  $\frac{33}{40}$

Options :

212807118945 1

212807118946 2

212807118947 3

212807118948 4

Question Number : 252 Question Id : 21280719737 Question Type : MCQ Option Shuffling : No Is Question Mandatory : No Calculator : None  
Response Time : N.A Think Time : N.A Minimum Instruction Time : 0

Correct Marks : 5 Wrong Marks : 1

Question Key Details :

Key	Value
Comprehension	MCQ



ਜ਼ਰੂਰੀ ਕਾਰਨਾਂ ਕਰਕੇ ਸਾਲ  $\frac{1}{27}$  ਘਟਿਤ ਹੋਵੇ ਅਤੇ ਅਨੁਪਾਤ  $\frac{5}{9}$ ,  $\frac{3}{11}$  ਬਣੇ।

(1)  $\frac{15}{99}$

(2)  $\frac{1}{729}$

(3)  $\frac{1}{55}$

(4)  $\frac{33}{40}$

Options :

212807118945 1

212807118946 2

212807118947 3

212807118948 4

Question Number : 252 Question Id : 21280719737 Question Type : MCQ Option Shuffling : No Is Question Mandatory : No Calculator : None

Response Time : N.A Think Time : N.A Minimum Instruction Time : 0

Correct Marks : 5 Wrong Marks : 1

Question Key Details :

Key	Value
Comprehension	MCQ

ਉਹ ਅੰਸ਼ ਲੱਭੋ ਜੋ  $\frac{1}{27}$  ਦਾ ਉੱਚੀ ਅਨੁਪਾਤ ਰੱਖਦਾ ਹੈ ਜੋ  $\frac{3}{11}$  ਦਾ  $\frac{5}{9}$  ਹੁੰਦਾ ਹੈ।

(1)  $\frac{15}{99}$

(2)  $\frac{1}{729}$

(3)  $\frac{1}{55}$

(4)  $\frac{33}{40}$

Options :

212807118945 1

212807118946 2

212807118947 3

212807118948 4

Question Number : 252 Question Id : 21280719737 Question Type : MCQ Option Shuffling : No Is Question Mandatory : No Calculator : None

Response Time : N.A Think Time : N.A Minimum Instruction Time : 0

Correct Marks : 5 Wrong Marks : 1

Question Key Details :

Key	Value
Comprehension	MCQ

இதற்கு இணையான விகிதத்தைக் கொண்ட பகுதியைக் கண்டறியவும்  $\frac{1}{27}$ .

$$\frac{3}{11} \frac{5}{9}$$

(1)  $\frac{15}{99}$

(2)  $\frac{1}{729}$

(3)  $\frac{1}{55}$

(4)  $\frac{33}{40}$

Options :

212807118945-1

212807118946-2

212807118947-3

212807118948-4

Question Number : 252 Question Id : 21280719737 Question Type : MCQ Option Shuffling : No Is Question Mandatory : No Calculator : None  
Response Time : N.A Think Time : N.A Minimum Instruction Time : 0

Correct Marks : 5 Wrong Marks : 1

Question Key Details :

Key	Value
Comprehension	MCQ

$\frac{1}{27}$  க்கு  $\frac{3}{11}$  గల నిష్పత్తికి సమాన భిన్నాన్ని  $\frac{5}{9}$  కి ఏ భిన్నం చేస్తుంది ?

(1)  $\frac{15}{99}$

(2)  $\frac{1}{729}$

(3)  $\frac{1}{55}$

(4)  $\frac{33}{40}$

Options :

212807118945-1

212807118946-2

212807118947-3

212807118948-4

Question Number : 252 Question Id : 21280719737 Question Type : MCQ Option Shuffling : No Is Question Mandatory : No Calculator : None  
Response Time : N.A Think Time : N.A Minimum Instruction Time : 0

Correct Marks : 5 Wrong Marks : 1

Question Key Details :

Key	Value
Comprehension	MCQ

اس کسر کی تلاش کریں جو  $\frac{1}{27}$  کا وہی شرح رکھتا ہے جو  $\frac{3}{11}$  کے لیے رکھتا ہے ؟

$$\frac{15}{99} \quad (1)$$

$$\frac{1}{729} \quad (2)$$

$$\frac{1}{55} \quad (3)$$

$$\frac{33}{40} \quad (4)$$

Options :

212807118945 1

212807118946 2

212807118947 3

212807118948 4

Question Number : 253 Question Id : 21280719735 Question Type : MCQ Option Shuffling : No Is Question Mandatory : No Calculator : None  
Response Time : N.A Think Time : N.A Minimum Instruction Time : 0

Correct Marks : 5 Wrong Marks : 1

Question Key Details :

Key	Value
Comprehension	MCQ

Shaloo sold a mobile phone for ₹ 1,950 at a loss of 25%. At what price should she have sold it to get a profit of 30% ?

(1) ₹ 3,380

(2) ₹ 3,280

(3) ₹ 3,180

(4) ₹ 3,080

Options :

212807118949 1

212807118950 2

212807118951 3

212807118952 4

Question Number : 253 Question Id : 21280719735 Question Type : MCQ Option Shuffling : No Is Question Mandatory : No Calculator : None  
Response Time : N.A Think Time : N.A Minimum Instruction Time : 0

Correct Marks : 5 Wrong Marks : 1

Question Key Details :

Key	Value
Comprehension	MCQ

शालू ने एक मोबाइल फोन 25% हानि पर ₹ 1950 में बेचा। 30% लाभ प्राप्त करने के लिए उसे फोन कितने में बेचना चाहिए था ?

(1) ₹ 3380

(2) ₹ 3280

(3) ₹ 3180

(4) ₹ 3080

Options :

212807118949 1

212807118950 2

212807118951 3

212807118952 4



Question Number : 253 Question Id : 212807189738 Question Type : MCQ Option Shuffling : No Is Question Mandatory : No Calculator : None  
Response Time : N.A Think Time : N.A Minimum Instruction Time : 0

Correct Marks : 5 Wrong Marks : 1

Question Key Details :

Key	Value
Comprehension	MCQ

શ્વાસુએ 25% લોકચાનક એટા મોબાઈલ મેકા 1950 ટકાત વિક્રી કરીલે. 30% લાભ પાલે તાઈ મોબાઈલટો કિ લામત વિક્રી કરીલ લાગિલ ?

- (1) ₹ 3380
- (2) ₹ 3280
- (3) ₹ 3180
- (4) ₹ 3080

Options :

- 21280718949 1  
21280718950 2  
21280718951 3  
21280718952 4

Question Number : 253 Question Id : 212807189738 Question Type : MCQ Option Shuffling : No Is Question Mandatory : No Calculator : None  
Response Time : N.A Think Time : N.A Minimum Instruction Time : 0

Correct Marks : 5 Wrong Marks : 1

Question Key Details :

Key	Value
Comprehension	MCQ

શાકુ 1950 ટાકાચ એકાટી મોબાઈલ વિક્રિ કરલે 25% લાભ હચ. કાક ટાકાચ વિક્રિ કરલે તાઈ 30% લાભ હલે ?

- (1) ₹ 3380
- (2) ₹ 3280
- (3) ₹ 3180
- (4) ₹ 3080

Options :

- 21280718949 1  
21280718950 2  
21280718951 3  
21280718952 4

Question Number : 253 Question Id : 212807189738 Question Type : MCQ Option Shuffling : No Is Question Mandatory : No Calculator : None  
Response Time : N.A Think Time : N.A Minimum Instruction Time : 0

Correct Marks : 5 Wrong Marks : 1

Question Key Details :

Key	Value
Comprehension	MCQ

શાલુ એ 25% ના નુકસાને ₹ 1950 માં મોબાઈલ ફોન વેચ્યો, 30% નફો મેળવવા માટે તેણીએ તેને કેટલી કિંમતે વેચ્યો હતો?

- (1) ₹ 3380
- (2) ₹ 3280
- (3) ₹ 3180
- (4) ₹ 3080

Options :

- 21280718949 1  
21280718950 2  
21280718951 3

212807118952-4

Question Number : 253 Question Id : 21280719735 Question Type : MCQ Option Shuffling : No Is Question Mandatory : No Calculator : None  
Response Time : N.A Think Time : N.A Minimum Instruction Time : 0

Correct Marks : 5 Wrong Marks : 1

Question Key Details :

Key	Value
Comprehension	MCQ

ಶಾಲಾ 25% ಸಪ್ತವೊಂದಿಗೆ ಒಂದು ಮೊಬೈಲ್ ಫೋನ್‌ನ್ನು ₹ 1,950 ಕ್ಕೆ ಮಾರಿದಳು. ಅವಳು 30% ಲಾಭ ಪಡೆಯಲು ಯಾವ ಬೆಲೆಗೆ ಮಾರಾಟಮಾಡಬೇಕಾಗಿತ್ತು ?

- (1) ₹ 3,380
- (2) ₹ 3,280
- (3) ₹ 3,180
- (4) ₹ 3,080

Options :

212807118949-1

212807118950-2

212807118951-3

212807118952-4

Question Number : 253 Question Id : 21280719735 Question Type : MCQ Option Shuffling : No Is Question Mandatory : No Calculator : None  
Response Time : N.A Think Time : N.A Minimum Instruction Time : 0

Correct Marks : 5 Wrong Marks : 1

Question Key Details :

Key	Value
Comprehension	MCQ

ಶಾಲಾನ್ ಆಪಲ್ ಮೊಬೈಲ್ 25% ಟೊಟಾಲ್ ₹ 1950 ಲಾ ವಿಕಲಾ. ಮೊಬೈಲ್‌ಚ್ಯಾ ವಿಕಲಿವರ 30% ಲಫಾ ಮಿಡ್‌ವಿಫ್ಯಾಸಾಡಿ ತಿಲಾ ತೊ ಕೊಫಲ್ಯಾ ಕಿಮತಿ ಸ ವಿಕಾಬಾ ಸಾಗಲ ?

- (1) ₹ 3380
- (2) ₹ 3280
- (3) ₹ 3180
- (4) ₹ 3080

Options :

212807118949-1

212807118950-2

212807118951-3

212807118952-4

Question Number : 253 Question Id : 21280719735 Question Type : MCQ Option Shuffling : No Is Question Mandatory : No Calculator : None  
Response Time : N.A Think Time : N.A Minimum Instruction Time : 0

Correct Marks : 5 Wrong Marks : 1

Question Key Details :

Key	Value
Comprehension	MCQ

ಷಾಲಾ ಒರು ಡೊಫೊಢಿಲಿ ಡೊಢಾಣಿ 25% ಢಾಷ್‌ಢಢಢಿಲಿ 1950 ರೂಪಾಣ್ ಲಿಢ್ಢು. 30% ಲಾಢಢಢಿಲಿ ಲಿಢ್ಢಿಢಢಢಾಡಾಯಿರೂಢಢಾಣಿಲಿ, ಡಾಡಾಢಿ ಡೊಢಾಣಿ ಏಢ್ಢುಢ ರೂಪಾಣ್ ಲಿಢ್ಢಿಢಢಢಾಡಾಯಿರೂಢಢು ?

- (1) ₹ 3380
- (2) ₹ 3280
- (3) ₹ 3180
- (4) ₹ 3080

Options :

212807118949 1  
212807118950 2  
212807118951 3  
212807118952 4

Question Number : 253 Question Id : 21280719735 Question Type : MCQ Option Shuffling : No Is Question Mandatory : No Calculator : None  
Response Time : N.A Think Time : N.A Minimum Instruction Time : 0

Correct Marks : 5 Wrong Marks : 1

Question Key Details :

Key	Value
Comprehension	MCQ

25% ਖਰਚ ਕਰਨ ਨੂੰ ਬਾਕੀ ਗੋਲੀ-ਘ ਮੋਮਾਗਾਜ਼ਲ ਯੋਗਕਰਮ ₹ 1950 ਚੱਕਾਗੇ ਹਿੱਸੇ ਕਰਾ। ਕੇਵਲੇ ਸੂਚਕਾਗੇ ਚੇ ਖਰਾਕੂ ਹਿੱਸੇ ਕਰੇਲ  
30% ਗਾਕ ਚਾਕਕ ?

- (1) ₹ 3380
- (2) ₹ 3280
- (3) ₹ 3180
- (4) ₹ 3080

Options :

212807118949 1  
212807118950 2  
212807118951 3  
212807118952 4

Question Number : 253 Question Id : 21280719735 Question Type : MCQ Option Shuffling : No Is Question Mandatory : No Calculator : None  
Response Time : N.A Think Time : N.A Minimum Instruction Time : 0

Correct Marks : 5 Wrong Marks : 1

Question Key Details :

Key	Value
Comprehension	MCQ

ਸਾਲੂ ਨੇ 25% ਦੇ ਘਾਟੇ ਵਿਚ 1950 ਰੁਪਏ ਵਿਚ ਇਕ ਮੋਥਾਈਲ ਫੋਨ ਵੇਚਿਆ। 30% ਦਾ ਮੁਨਾਫਾ ਲੈਣ ਲਈ ਉਸਨੂੰ ਕਿਸ  
ਕੀਮਤ ਤੇ ਵੇਚਣਾ ਚਾਹੀਦਾ ਸੀ?

- (1) 3380 ਰੁਪਏ
- (2) 3280 ਰੁਪਏ
- (3) 3180 ਰੁਪਏ
- (4) 3080 ਰੁਪਏ

Options :

212807118949 1  
212807118950 2  
212807118951 3  
212807118952 4

Question Number : 253 Question Id : 21280719735 Question Type : MCQ Option Shuffling : No Is Question Mandatory : No Calculator : None  
Response Time : N.A Think Time : N.A Minimum Instruction Time : 0

Correct Marks : 5 Wrong Marks : 1

Question Key Details :

Key	Value
Comprehension	MCQ

₹ 1950 ஆம் ஆண்டில் 25% நஷ்டத்தில் ஒரு மொபைல் போனை விற்கார். 30% இலாபம் பெற அவள் அதை என்ன விலைக்கு விற்கிறாள்?

- (1) ₹ 3380
- (2) ₹ 3280
- (3) ₹ 3180
- (4) ₹ 3080

Options :

- 212807118949 1  
212807118950 2  
212807118951 3  
212807118952 4

Question Number : 253 Question Id : 21280729738 Question Type : MCQ Option Skuffling : No Is Question Mandatory : No Calculator : None Response Time : N.A Think Time : N.A Minimum Instruction Time : 0

Correct Marks : 5 Wrong Marks : 1

Question Key Details :

Key	Value
Comprehension	MCQ

₹ 1950 க்கு 25% நஷ்டத்தில் ஒரு மொபைல் போனை விற்கார். 30% இலாபம் பெற அதை என்ன விலைக்கு விற்கிறார் ?

- (1) ₹ 3380
- (2) ₹ 3280
- (3) ₹ 3180
- (4) ₹ 3080

Options :

- 212807118949 1  
212807118950 2  
212807118951 3  
212807118952 4

Question Number : 253 Question Id : 21280729738 Question Type : MCQ Option Skuffling : No Is Question Mandatory : No Calculator : None Response Time : N.A Think Time : N.A Minimum Instruction Time : 0

Correct Marks : 5 Wrong Marks : 1

Question Key Details :

Key	Value
Comprehension	MCQ

₹ 1950 کے ساتھ 25% نقصان کے ساتھ 25% نష్ٹ میں ایک موبائل فون بیچتا ہے۔ کسی قیمت پر اسے بیچتا ہے 30% فیصد کٹاؤ کے لئے ؟

- (1) ₹ 3380
- (2) ₹ 3280
- (3) ₹ 3180
- (4) ₹ 3080

Options :

- 212807118949 1  
212807118950 2  
212807118951 3

212507118953-4

Question Number : 254 Question Id : 21280719739 Question Type : MCQ Option Shuffling : No Is Question Mandatory : No Calculator : None  
Response Time : N.A Think Time : N.A Minimum Instruction Time : 0

Correct Marks : 5 Wrong Marks : 1

Question Key Details :

Key	Value
Comprehension	MCQ

220% of a number P is 44. What is 44% of P ?

- (1) 88
- (2) 8.8
- (3) 880
- (4) 0.88

Options :

212507118953-1

212807118954-1

212507118953-3

212807118954-4

Question Number : 254 Question Id : 21280719739 Question Type : MCQ Option Shuffling : No Is Question Mandatory : No Calculator : None  
Response Time : N.A Think Time : N.A Minimum Instruction Time : 0

Correct Marks : 5 Wrong Marks : 1

Question Key Details :

Key	Value
Comprehension	MCQ

किसी संख्या P का 220 % 44 है। P का 44 % क्या है ?

- (1) 88
- (2) 8.8
- (3) 880
- (4) 0.88

Options :

212507118953-1

212807118954-1

212507118953-3

212807118954-4

Question Number : 254 Question Id : 21280719739 Question Type : MCQ Option Shuffling : No Is Question Mandatory : No Calculator : None  
Response Time : N.A Think Time : N.A Minimum Instruction Time : 0

Correct Marks : 5 Wrong Marks : 1

Question Key Details :

Key	Value
Comprehension	MCQ

'P' সংখ্যার 220% হৈছে 44। তেহে 'P' 44% কিমান হ'ব ?

- (1) 88
- (2) 8.8
- (3) 880
- (4) 0.88

Options :

212807118953-1

212507118954-1

212807118953-3

212807118954-4

Question Number : 254 Question Id : 21280719739 Question Type : MCQ Option Shuffling : No Is Question Mandatory : No Calculator : None  
Response Time : N.A Think Time : N.A Minimum Instruction Time : 0

Correct Marks : 5 Wrong Marks : 1

Question Key Details :

Key	Value
Comprehension	MCQ

\*P ನೆರ 220% ಡನ 44 | \*P ಡನ 44% ಡನ ?

- (1) 88
- (2) 8.8
- (3) 880
- (4) 0.88

Options :

212807118953 1

212807118954 2

212807118955 3

212807118956 4

Question Number : 254 Question Id : 21280719739 Question Type : MCQ Option Shuffling : No Is Question Mandatory : No Calculator : None  
Response Time : N.A Think Time : N.A Minimum Instruction Time : 0

Correct Marks : 5 Wrong Marks : 1

Question Key Details :

Key	Value
Comprehension	MCQ

ಸಂಖ್ಯೆ P ನೆರ 22% ಡನ 44 ಡ. P ನೆರ 44% ಡನ ?

- (1) 88
- (2) 8.8
- (3) 880
- (4) 0.88

Options :

212807118953 1

212807118954 2

212807118955 3

212807118956 4

Question Number : 254 Question Id : 21280719739 Question Type : MCQ Option Shuffling : No Is Question Mandatory : No Calculator : None  
Response Time : N.A Think Time : N.A Minimum Instruction Time : 0

Correct Marks : 5 Wrong Marks : 1

Question Key Details :

Key	Value
Comprehension	MCQ

ಸಂಖ್ಯೆ P ಡನ 220 % 44 ಡನುಡುಡು. P ನೆರ 44% ಡನ ?

- (1) 88
- (2) 8.8
- (3) 880
- (4) 0.88

Options :

212807118953 1

212807118954 2

212807118955 3

212807118956 4

Question Number : 254 Question Id : 21280719739 Question Type : MCQ Option Shuffling : No Is Question Mandatory : No Calculator : None  
Response Time : N.A Think Time : N.A Minimum Instruction Time : 0

Correct Marks : 5 Wrong Marks : 1

Question Key Details :

Key	Value
Comprehension	MCQ

P या संख्येचे 220% = 44 असल्यास P चे 44% किती ?

- (1) 88
- (2) 8.8
- (3) 880
- (4) 0.88

Options :

212807118953-1  
212807118954-1  
212807118953-3  
212807118955-4

Question Number : 254 Question Id : 21280719739 Question Type : MCQ Option Shuffling : No Is Question Mandatory : No Calculator : None  
Response Time : N.A Think Time : N.A Minimum Instruction Time : 0

Correct Marks : 5 Wrong Marks : 1

Question Key Details :

Key	Value
Comprehension	MCQ

P എന്ന സംഖ്യയുടെ 220% ആണ് 44. എങ്കിൽ, P യുടെ 44% എത്ര ?

- (1) 88
- (2) 8.8
- (3) 880
- (4) 0.88

Options :

212807118953-1  
212807118954-1  
212807118953-3  
212807118955-4

Question Number : 254 Question Id : 21280719739 Question Type : MCQ Option Shuffling : No Is Question Mandatory : No Calculator : None  
Response Time : N.A Think Time : N.A Minimum Instruction Time : 0

Correct Marks : 5 Wrong Marks : 1

Question Key Details :

Key	Value
Comprehension	MCQ

ഒരുതീവ വൃक्षा P ର 220%, 44 തടവ് । ഒരുക P ର 44% ?

- (1) 88
- (2) 8.8
- (3) 880
- (4) 0.88

Options :

212807118953-1  
212807118954-1  
212807118953-3  
212807118955-4

Question Number : 254 Question Id : 21280719739 Question Type : MCQ Option Shuffling : No Is Question Mandatory : No Calculator : None  
Response Time : N.A Think Time : N.A Minimum Instruction Time : 0

Correct Marks : 5 Wrong Marks : 1

Question Key Details :

Key	Value
Comprehension	MCQ

ਇਕ ਸੰਖਿਆ P ਦਾ 22% 44 ਹੈ ਤਾ P ਦਾ 44% ਕੀ ਹੈ?

- (1) 88
- (2) 8.8
- (3) 880
- (4) 0.88

Options :

212807118953-1  
212807118954-1  
212807118955-3  
212807118956-4

Question Number : 254 Question Id : 21280729739 Question Type : MCQ Option Shuffling : No Is Question Mandatory : No Calculator : None  
Response Time : N.A Think Time : N.A Minimum Instruction Time : 0

Correct Marks : 5 Wrong Marks : 1

Question Key Details :

Key	Value
Comprehension	MCQ

P எண்ணின் 4.220% 44 ஆகும். P இன் 44% என்றால் என்ன?

- (1) 88
- (2) 8.8
- (3) 880
- (4) 0.88

Options :

212807118953-1  
212807118954-1  
212807118955-3  
212807118956-4

Question Number : 254 Question Id : 21280729739 Question Type : MCQ Option Shuffling : No Is Question Mandatory : No Calculator : None  
Response Time : N.A Think Time : N.A Minimum Instruction Time : 0

Correct Marks : 5 Wrong Marks : 1

Question Key Details :

Key	Value
Comprehension	MCQ

P యొక్క 220% అనేది 44. అప్పుడు P యొక్క 44% ఎంత ?

- (1) 88
- (2) 8.8
- (3) 880
- (4) 0.88

Options :

212807118953-1  
212807118954-1  
212807118955-3  
212807118956-4

Question Number : 254 Question Id : 21280729739 Question Type : MCQ Option Shuffling : No Is Question Mandatory : No Calculator : None  
Response Time : N.A Think Time : N.A Minimum Instruction Time : 0



Correct Marks : 5 Wrong Marks : 1

Question Key Details :

Key	Value
Comprehension	MCQ

ایک نمبر  $p$  کا 220% فیصد 44 ہے، تو  $p$  کا 44% فیصد کتنا ہوگا ؟

88 (1)

8.8 (2)

880 (3)

0.88 (4)

Options :

212807118953 1

212807118954 2

212807118955 3

212807118956 4

Question Number : 255 Question Id : 21280719740 Question Type : MCQ Option Shuffling : No Is Question Mandatory : No Calculator : None  
Response Time : N.A Think Time : N.A Minimum Instruction Time : 0

Correct Marks : 5 Wrong Marks : 1

Question Key Details :

Key	Value
Comprehension	MCQ

In how much time will a sum of ₹ 64,000 amount to ₹ 68,921 at 5% per annum, interest being compounded half yearly ?

(1) 2 years

(2) 3 years

(3)  $1\frac{1}{2}$  years

(4)  $2\frac{1}{2}$  years

Options :

212807118957 1

212807118958 2

212807118959 3

212807118960 4

Question Number : 255 Question Id : 21280719740 Question Type : MCQ Option Shuffling : No Is Question Mandatory : No Calculator : None  
Response Time : N.A Think Time : N.A Minimum Instruction Time : 0

Correct Marks : 5 Wrong Marks : 1

Question Key Details :

Key	Value
Comprehension	MCQ

5% वार्षिक व्याज दर से ₹ 64,000 की राशि कितने वर्ष में ₹ 68,921 हो जाएगी, जबकि व्याज अर्द्धवार्षिक संयोजित हो रहा है ?

- (1) 2 वर्ष
- (2) 3 वर्ष
- (3)  $1\frac{1}{2}$  वर्ष
- (4)  $2\frac{1}{2}$  वर्ष

Options :

212807118957 1

212807118958 2

212807118959 3

212807118960 4

Question Number : 255 Question Id : 21280729740 Question Type : MCQ Option Shuffling : No Is Question Mandatory : No Calculator : None  
Response Time : N.A Think Time : N.A Minimum Instruction Time : 0

Correct Marks : 5 Wrong Marks : 1

Question Key Details :

Key	Value
Comprehension	MCQ

5% वार्षिक सूतत, सूत ढेर वार्षिक वृद्धि करि 64000 टका किमान वरुवत 68921 टका ह'व ह

- (1) 2 वरुवत
- (2) 3 वरुवत
- (3)  $1\frac{1}{2}$  वरुवत
- (4)  $2\frac{1}{2}$  वरुवत

Options :

212807118957 1

212807118958 2

212807118959 3

212807118960 4

Question Number : 255 Question Id : 21280729740 Question Type : MCQ Option Shuffling : No Is Question Mandatory : No Calculator : None  
Response Time : N.A Think Time : N.A Minimum Instruction Time : 0

Correct Marks : 5 Wrong Marks : 1

Question Key Details :

Key	Value
Comprehension	MCQ

কত সময়ে 64,000 টাকা 68,921 টাকা হবে বার্ষিক 5% সুদের হারে, চক্রবৃদ্ধি সুদ মাধ্যমিক মেওয়া হয় ?

- (1) 2 বছর
- (2) 3 বছর
- (3)  $1\frac{1}{2}$  বছর
- (4)  $2\frac{1}{2}$  বছর

Options :

212807118957 1

212807118958 1

212807118959 3

212807118960 4

Question Number : 255 Question Id : 21280729740 Question Type : MCQ Option Shuffling : No Is Question Mandatory : No Calculator : None  
Response Time : N.A Think Time : N.A Minimum Instruction Time : 0

Correct Marks : 5 Wrong Marks : 1

Question Key Details :

Key	Value
Comprehension	MCQ

কেতলা সমযমাং ₹ 64000 নী রকম বার্ষিক 5% না ধরে ₹ 68921 ধরে, ব্যাংক স্বর্ধবার্ষিক সক্রবৃদ্ধি করবারা আযশে.

- (1) 2 বর্ধ
- (2) 3 বর্ধ
- (3)  $1\frac{1}{2}$  বর্ধ
- (4)  $2\frac{1}{2}$  বর্ধ

Options :

212807118957 1

212807118958 1

212807118959 3

212807118960 4

Question Number : 255 Question Id : 21280729740 Question Type : MCQ Option Shuffling : No Is Question Mandatory : No Calculator : None  
Response Time : N.A Think Time : N.A Minimum Instruction Time : 0

Correct Marks : 5 Wrong Marks : 1

Question Key Details :

Key	Value
Comprehension	MCQ

ಬಡ್ಡಿಯು ಆರ್ಥ ಪರ್ಷಕ್ಕೆ ದ್ವಿಗುಣಗೊಳ್ಳುತ್ತಿದ್ದರೆ, 5% ಪ್ರತಿ ವಾರ್ಷಿಕ ಬಡ್ಡಿಯ ಪರದಲ್ಲಿ ಒಟ್ಟು ವೆಚ್ಚ ₹ 64,000 ಮತ್ತು ₹ 68,921 ಆಗಲು ಎಷ್ಟು ಸಮಯ ಬೇಕು ?

- (1) 2 ವರ್ಷಗಳು
- (2) 3 ವರ್ಷಗಳು
- (3)  $1\frac{1}{2}$  ವರ್ಷಗಳು
- (4)  $2\frac{1}{2}$  ವರ್ಷಗಳು

Options :

212807118957 1

212807118958 1

212807118959 3

212807118960 4

Question Number : 255 Question Id : 21280719740 Question Type : MCQ Option Shuffling : No Is Question Mandatory : No Calculator : None  
Response Time : N.A Think Time : N.A Minimum Instruction Time : 0

Correct Marks : 5 Wrong Marks : 1

Question Key Details :

Key	Value
Comprehension	MCQ

व्याजाची चक्रवाह दर सहा महिन्यांनी होत असल्यास व व्याजदर 5 द.सा.द.से. असल्यास ₹ 64000 इतकी रक्कम ₹ 68921 होण्यास किती कालावधी लागेल ?

- (1) 2 वर्षे
- (2) 3 वर्षे
- (3)  $1\frac{1}{2}$  वर्षे
- (4)  $2\frac{1}{2}$  वर्षे

Options :

212807118957 1

212807118958 1

212807118959 3

212807118960 4

Question Number : 255 Question Id : 21280719740 Question Type : MCQ Option Shuffling : No Is Question Mandatory : No Calculator : None  
Response Time : N.A Think Time : N.A Minimum Instruction Time : 0

Correct Marks : 5 Wrong Marks : 1

Question Key Details :

Key	Value
Comprehension	MCQ

അർദ്ധ വാർഷിക പലിശ നൽകുന്ന ഒരു സംവിധാനത്തിൽ, 64000 രൂപ 5% വാർഷിക പലിശ നിരക്കിൽ 68921 രൂപയായി മാറാൻ എത്ര കാലമെടുക്കും ?

- (1) 2 വർഷം
- (2) 3 വർഷം
- (3)  $1\frac{1}{2}$  വർഷം
- (4)  $2\frac{1}{2}$  വർഷം

Options :

- 112807118957 1
- 112807118958 2
- 112807118959 3
- 112807118960 4

Question Number : 255 Question Id : 21280729740 Question Type : MCQ Option Shuffling : No Is Question Mandatory : No Calculator : None  
 Response Time : N.A Think Time : N.A Minimum Instruction Time : 0  
 Correct Marks : 5 Wrong Marks : 1

Question Key Details :

Key	Value
Comprehension	MCQ

ഒരു പ്ലാൻ്റെ ഒരു മുൻ മാർഗ്ഗം ഏതു പ്രതി 5% വൃദ്ധി മാർഗ്ഗം 64000 രൂപ 68921 രൂപയ്ക്കായി മാറാൻ എത്ര കാലമെടുക്കും ?

- (1) 2 ഏഴ്
- (2) 3 ഏഴ്
- (3)  $1\frac{1}{2}$  ഏഴ്
- (4)  $2\frac{1}{2}$  ഏഴ്

Options :

- 112807118957 1
- 112807118958 2
- 112807118959 3
- 112807118960 4

Question Number : 255 Question Id : 21280729740 Question Type : MCQ Option Shuffling : No Is Question Mandatory : No Calculator : None  
 Response Time : N.A Think Time : N.A Minimum Instruction Time : 0  
 Correct Marks : 5 Wrong Marks : 1

Question Key Details :

Key	Value
Comprehension	MCQ

ਕਿੰਨ ਸਮੇਂ ਵਿਚ 64000 ਰੁਪਏ ਦੀ ਰਕਮ 68921 ਰੁਪਏ 5% ਸਲਾਨਾ ਵਿਆਜ ਤੇ ਛਿਮਾਹੀ ਮਿਸ਼ਰਿਤ ਕੀਤੀ ਜਾ ਸਕਦੀ ਹੈ?

- (1) 2 ਸਾਲ
- (2) 3 ਸਾਲ
- (3)  $1\frac{1}{2}$  ਸਾਲ
- (4)  $2\frac{1}{2}$  ਸਾਲ

Options :

112807118957 1

112807118958 2

112807118959 3

112807118960 4

Question Number : 255 Question Id : 21280729740 Question Type : MCQ Option Shuffling : No Is Question Mandatory : No Calculator : None  
Response Time : N.A Think Time : N.A Minimum Instruction Time : 0

Correct Marks : 5 Wrong Marks : 1

Question Key Details :

Key	Value
Comprehension	MCQ

₹ 64,000 என்ற தொகை ஆண்டுக்கு 5% வட்டி விகிதத்தில் ₹ 68921-க்கு எவ்வளவு காலத்தில் சிடைக்கும்?

- (1) 2 ஆண்டுகள்
- (2) 3 ஆண்டுகள்
- (3)  $1\frac{1}{2}$  ஆண்டுகள்
- (4)  $2\frac{1}{2}$  ஆண்டுகள்

Options :

112807118957 1

112807118958 2

112807118959 3

112807118960 4

Question Number : 255 Question Id : 21280729740 Question Type : MCQ Option Shuffling : No Is Question Mandatory : No Calculator : None  
Response Time : N.A Think Time : N.A Minimum Instruction Time : 0

Correct Marks : 5 Wrong Marks : 1

Question Key Details :

Key	Value
Comprehension	MCQ

వడ్డీ ఇచ్చే సంవత్సరానికి ఒక మారు లెక్కించగా, సంవత్సరానికి 5% వడ్డీతో ₹ 64000 మొత్తంతో ₹ 68921 కాపడానికి ఎంత కాలం పడుతుంది ?

- (1) 2 సంవత్సరాలు  
 (2) 3 సంవత్సరాలు  
 (3)  $1\frac{1}{2}$  సంవత్సరాలు  
 (4)  $2\frac{1}{2}$  సంవత్సరాలు

Options :

- 212807118957 1  
 212807118958 2  
 212807118959 3  
 212807118960 4

Question Number : 255 Question Id : 21280719740 Question Type : MCQ Option Shuffling : No Is Question Mandatory : No Calculator : None  
 Response Time : N.A Think Time : N.A Minimum Instruction Time : 0

Correct Marks : 5 Wrong Marks : 1

Question Key Details :

Key	Value
Comprehension	MCQ

شش ماہی کمپاؤنڈنگ سود کے حساب سے کتنے دنوں میں 64000 روپے رقم کمال 68921 روپے رقم سااا۔ 5% فیصد پڑھو ہائیگی ؟

- (1) 2 سال  
 (2) 3 سال  
 (3)  $1\frac{1}{2}$  سال  
 (4)  $2\frac{1}{2}$  سال

Options :

- 212807118957 1  
 212807118958 2  
 212807118959 3  
 212807118960 4

Question Number : 256 Question Id : 21280719741 Question Type : MCQ Option Shuffling : No Is Question Mandatory : No Calculator : None  
 Response Time : N.A Think Time : N.A Minimum Instruction Time : 0

Correct Marks : 5 Wrong Marks : 1

Question Key Details :

Key	Value
Comprehension	MCQ

The difference between simple interest and compound interest on a certain sum of money for 3 years at 10% per annum is ₹ 62. The sum is :

- (1) ₹ 500  
 (2) ₹ 800  
 (3) ₹ 1,000  
 (4) ₹ 2,000

Options :

- 212807118961 1
- 212807118962 2
- 212807118963 3
- 212807118964 4

Question Number : 256 Question Id : 21280729741 Question Type : MCQ Option Shuffling : No Is Question Mandatory : No Calculator : None  
Response Time : N.A Think Time : N.A Minimum Instruction Time : 0

Correct Marks : 5 Wrong Marks : 1

Question Key Details :

Key	Value
Comprehension	MCQ

10 % वार्षिक व्याज दर से किसी राशि पर 3 वर्ष के साधारण व्याज और चक्रवृद्धि व्याज का अंतर ₹ 62 है। यह राशि कितनी है ?

- (1) ₹ 500
- (2) ₹ 800
- (3) ₹ 1,000
- (4) ₹ 2,000

Options :

- 212807118961 1
- 212807118962 2
- 212807118963 3
- 212807118964 4

Question Number : 256 Question Id : 21280729741 Question Type : MCQ Option Shuffling : No Is Question Mandatory : No Calculator : None  
Response Time : N.A Think Time : N.A Minimum Instruction Time : 0

Correct Marks : 5 Wrong Marks : 1

Question Key Details :

Key	Value
Comprehension	MCQ

এটা মুঠ টকাৰ 10% বছৰি সুতত 3 বছৰৰ বাবে সৰল সুত আৰু চক্রবৃদ্ধি সুতৰ মাজৰ পাৰ্থক্যটো হৈছে 62 টকা। মুঠ টকাটো হৈছে।

- (1) ₹ 500
- (2) ₹ 800
- (3) ₹ 1000
- (4) ₹ 2000

Options :

- 212807118961 1
- 212807118962 2
- 212807118963 3
- 212807118964 4

Question Number : 256 Question Id : 21280729741 Question Type : MCQ Option Shuffling : No Is Question Mandatory : No Calculator : None  
Response Time : N.A Think Time : N.A Minimum Instruction Time : 0

Correct Marks : 5 Wrong Marks : 1

Question Key Details :

Key	Value
Comprehension	MCQ



वार्षिक 10% सुनेर हारे 3 बहरेर कोनो निदिष्ट परिमाण आसलेर सरल सुन ओ चक्रबुद्धि सुनेर पार्थका 62 टाका। आहले

असल हल—

- (1) ₹ 500
- (2) ₹ 800
- (3) ₹ 1000
- (4) ₹ 2000

Options :

- 212807118961 1  
212807118962 2  
212807118963 3  
212807118964 4

Question Number : 256 Question Id : 21280719741 Question Type : MCQ Option Shuffling : No Is Question Mandatory : No Calculator : None  
Response Time : N.A Think Time : N.A Minimum Instruction Time : 0

Correct Marks : 5 Wrong Marks : 1

Question Key Details :

Key	Value
Comprehension	MCQ

सादा व्याज अने चक्रबुद्धि व्याज वस्थेनो लडावत 3 वर्षधी 10% प्रति वर्ष भाटे ओकसत रकम पर ₹ 62 छे. सरवाणो शोधो.

- (1) ₹ 500
- (2) ₹ 800
- (3) ₹ 1000
- (4) ₹ 2000

Options :

- 212807118961 1  
212807118962 2  
212807118963 3  
212807118964 4

Question Number : 256 Question Id : 21280719741 Question Type : MCQ Option Shuffling : No Is Question Mandatory : No Calculator : None  
Response Time : N.A Think Time : N.A Minimum Instruction Time : 0

Correct Marks : 5 Wrong Marks : 1

Question Key Details :

Key	Value
Comprehension	MCQ

सरल बढ्दि मक्कु चक्र बढ्दिय सडामिस वृत्तारुपु लुदु निगदित मेलुदु हारु 3 वर्सदरु 10% प्रुति वारुषिक हारदरु रु 62. बडु मेलुदु :

- (1) ₹ 500
- (2) ₹ 800
- (3) ₹ 1,000
- (4) ₹ 2,000

Options :

- 212807118961 1  
212807118962 2  
212807118963 3  
212807118964 4

Question Number : 256 Question Id : 21280719741 Question Type : MCQ Option Shuffling : No Is Question Mandatory : No Calculator : None  
Response Time : N.A Think Time : N.A Minimum Instruction Time : 0

Correct Marks : 5 Wrong Marks : 1

Question Key Details :

Key	Value
-----	-------

एका विशिष्ट रकमेवर 3 वर्षासाठी 10 ट.सा.द.री. दराने असणाऱ्या सरळ व्याज आणि चक्रवाढ व्याज यातील फरक ₹ 62 इतका आहे. ती रक्कम म्हणजे :

- (1) ₹ 500  
 (2) ₹ 800  
 (3) ₹ 1000  
 (4) ₹ 2000

Options :

- 212807118961-1  
 212807118962-2  
 212807118963-3  
 212807118964-4

Question Number : 256 Question Id : 21280719741 Question Type : MCQ Option Shuffling : No Is Question Mandatory : No Calculator : None  
 Response Time : N.A Think Time : N.A Minimum Instruction Time : 0

Correct Marks : 5 Wrong Marks : 1

Question Key Details :

Key	Value
Comprehension	MCQ

ഒരു തുകക്ക് 3 വർഷांसाठी 10% നിരക്കിൽ കിട്ടേണ്ട സാധാരണ പലിയയും കൂട്ടുപലിയയും തമ്മിലുള്ള വ്യത്യാसം 62 രू.एकैकിൽ തുക എത്ര ?

- (1) ₹ 500  
 (2) ₹ 800  
 (3) ₹ 1000  
 (4) ₹ 2000

Options :

- 212807118961-1  
 212807118962-2  
 212807118963-3  
 212807118964-4

Question Number : 256 Question Id : 21280719741 Question Type : MCQ Option Shuffling : No Is Question Mandatory : No Calculator : None  
 Response Time : N.A Think Time : N.A Minimum Instruction Time : 0

Correct Marks : 5 Wrong Marks : 1

Question Key Details :

Key	Value
Comprehension	MCQ

एक निश्चित ंकाज घाटारज घुड 'ब' रूडू दूषि घुड नयले घाईक्य ₹ 62 घाटारि 10% घुडि बर्ष घुड शार 'ब' 3 बर्षेले दू'ब। 60दे वेे रूकाज घरिनाश लेते ?

- (1) ₹ 500  
 (2) ₹ 800  
 (3) ₹ 1000  
 (4) ₹ 2000

Options :

- 212807118961-1  
 212807118962-2  
 212807118963-3  
 212807118964-4

Question Number : 256 Question Id : 21280719741 Question Type : MCQ Option Shuffling : No Is Question Mandatory : No Calculator : None  
Response Time : N.A Think Time : N.A Minimum Instruction Time : 0

Correct Marks : 5 Wrong Marks : 1

Question Key Details :

Key	Value
Comprehension	MCQ

ਸਾਧਾਰਣ ਵਿਆਜ ਤੇ ਮਿਸ਼ਰਿਤ ਵਿਆਜ ਵਿਚ ਅੰਤਰ ਤਿੰਨ ਸਾਲਾਂ ਤੋਂ 10% ਪ੍ਰਤੀ ਸਾਲ ਲਈ ਇਕ ਨਿਸ਼ਚਿਤ ਰਕਮ ਤੇ 62 ਰੁਪਏ ਹੈ - ਇਹ ਰਕਮ ਹੈ -

- (1) 500 ਰੁਪਏ
- (2) 800 ਰੁਪਏ
- (3) 1000 ਰੁਪਏ
- (4) 2000 ਰੁਪਏ

Options :

212807118961 1  
212807118962 1  
212807118963 3  
212807118964 4

Question Number : 256 Question Id : 21280719741 Question Type : MCQ Option Shuffling : No Is Question Mandatory : No Calculator : None  
Response Time : N.A Think Time : N.A Minimum Instruction Time : 0

Correct Marks : 5 Wrong Marks : 1

Question Key Details :

Key	Value
Comprehension	MCQ

வருடத்திற்கு 10% என்ற விகிதத்தில் 3 ஆண்டுகளுக்கு ஒரு குறிப்பிட்ட தொகையின் மீதான எளிய வட்டி மற்றும் கூட்டு வட்டிக்கு இடையிலான வித்தியாசம் ₹ 62 ஆகும். மொத்த தொகை:

- (1) ₹ 500
- (2) ₹ 800
- (3) ₹ 1000
- (4) ₹ 2000

Options :

212807118961 1  
212807118962 1  
212807118963 3  
212807118964 4

Question Number : 256 Question Id : 21280719741 Question Type : MCQ Option Shuffling : No Is Question Mandatory : No Calculator : None  
Response Time : N.A Think Time : N.A Minimum Instruction Time : 0

Correct Marks : 5 Wrong Marks : 1

Question Key Details :

Key	Value
Comprehension	MCQ

సంవత్సరానికి 10% వడ్డీతో 3 సంవత్సరాల ఒక మొత్తం పై చక్రవర్తి మరియు వారు వడ్డీల మధ్య వ్యత్యాసం ₹ 62 కు మొత్తం ఎంత ?

- (1) ₹ 500  
 (2) ₹ 800  
 (3) ₹ 1000  
 (4) ₹ 2000

Options :

212807118961 3  
 212807118962 3  
 212807118963 3  
 212807118964 4

Question Number : 256 Question Id : 21280729741 Question Type : MCQ Option Shuffling : No Is Question Mandatory : No Calculator : None  
 Response Time : N.A Think Time : N.A Minimum Instruction Time : 0

Correct Marks : 5 Wrong Marks : 1

Question Key Details :

Key	Value
Comprehension	MCQ

عام پچھل سود اور کمپاؤنڈ سود کے درمیان فرق سا ان 10% ائصد کے حساب سے تین سال کے لیے ایک یقینی مجموعی رقم پر 62 روپے ہے، تو کل رقم ہوگی \_\_\_\_\_

- 500 روپے (1)  
 800 روپے (2)  
 1000 روپے (3)  
 2000 روپے (4)

Options :

212807118961 3  
 212807118962 3  
 212807118963 3  
 212807118964 4

Question Number : 257 Question Id : 21280729742 Question Type : MCQ Option Shuffling : No Is Question Mandatory : No Calculator : None  
 Response Time : N.A Think Time : N.A Minimum Instruction Time : 0

Correct Marks : 5 Wrong Marks : 1

Question Key Details :

Key	Value
Comprehension	MCQ

A rectangular park is 45 m long and 30 m wide. A 2.5 m wide path is constructed all along outside the park. The area of the path is :

- (1) 1750 m<sup>2</sup>  
 (2) 1250 m<sup>2</sup>  
 (3) 400 m<sup>2</sup>  
 (4) 500 m<sup>2</sup>

Options :

212807118965 3  
 212807118966 3  
 212807118967 3  
 212807118968 4

Question Number : 257 Question Id : 21280718961 Question Type : MCQ Option Shuffling : No Is Question Mandatory : No Calculator : None  
Response Time : N.A Think Time : N.A Minimum Instruction Time : 0

Correct Marks : 5 Wrong Marks : 1

Question Key Details :

Key	Value
Comprehension	MCQ

एक आयताकार पार्क की लंबाई 45 मीटर है और चौड़ाई 30 मीटर है। इस पार्क के बाहर चारों ओर 2.5 मीटर चौड़े मार्ग का निर्माण किया गया है। इस मार्ग का क्षेत्रफल क्या है ?

- (1) 1750 मीटर<sup>2</sup>
- (2) 1250 मीटर<sup>2</sup>
- (3) 400 मीटर<sup>2</sup>
- (4) 500 मीटर<sup>2</sup>

Options :

21280718961 1

21280718962 2

21280718963 3

21280718964 4

Question Number : 257 Question Id : 21280718962 Question Type : MCQ Option Shuffling : No Is Question Mandatory : No Calculator : None  
Response Time : N.A Think Time : N.A Minimum Instruction Time : 0

Correct Marks : 5 Wrong Marks : 1

Question Key Details :

Key	Value
Comprehension	MCQ

45 m দীঘল আৰু 30 m বহল এখন আয়তাকাৰ উদ্যান আছে। গোটেই উদ্যানখনৰ বাহিৰে বাহিৰে এটা 2.5 m বহল পদপথ এটা বানোৱা হৈছে। এতিয়া উদ্যানখনৰ কালি হ'ব :

- (1) 1750 m<sup>2</sup>
- (2) 1250 m<sup>2</sup>
- (3) 400 m<sup>2</sup>
- (4) 500 m<sup>2</sup>

Options :

21280718961 1

21280718962 2

21280718963 3

21280718964 4

Question Number : 257 Question Id : 21280718963 Question Type : MCQ Option Shuffling : No Is Question Mandatory : No Calculator : None  
Response Time : N.A Think Time : N.A Minimum Instruction Time : 0

Correct Marks : 5 Wrong Marks : 1

Question Key Details :

Key	Value
Comprehension	MCQ

একটি আয়তাকার উদ্যান 45 মিটার লম্বা এবং 30 মিটার চওড়া। উদ্যানের বাইরের দিকে 2.5 মিটারের একটি চওড়া রাস্তা তৈরি করা হয়। রাস্তার ক্ষেত্রফল হল —

- (1) 1750 বর্গমিটার
- (2) 1250 বর্গমিটার
- (3) 400 বর্গমিটার
- (4) 500 বর্গমিটার

Options :

- 212807118963 1  
212807118966 2  
212807118967 3  
212807118965 4

Question Number : 25\* Question Id : 21280729742 Question Type : MCQ Option Shuffling : No Is Question Mandatory : No Calculator : None  
Response Time : N.A Think Time : N.A Minimum Instruction Time : 0

Correct Marks : 5 Wrong Marks : 1

Question Key Details :

Key	Value
Comprehension	MCQ

এক রম্বসের দৈর্ঘ্য 45 m এবং 30 m পড়ানো। এই রম্বসের একটি কর্ণ 25 m পড়ানো রস্তু পাঁচবামা আখ্যো। এই রম্বসের বিস্তার খাখ্যো।

- (1) 1750 m<sup>2</sup>
- (2) 1250 m<sup>2</sup>
- (3) 400 m<sup>2</sup>
- (4) 500 m<sup>2</sup>

Options :

- 212807118963 1  
212807118966 2  
212807118967 3  
212807118965 4

Question Number : 25\* Question Id : 21280729742 Question Type : MCQ Option Shuffling : No Is Question Mandatory : No Calculator : None  
Response Time : N.A Think Time : N.A Minimum Instruction Time : 0

Correct Marks : 5 Wrong Marks : 1

Question Key Details :

Key	Value
Comprehension	MCQ

একটি আয়তাকার উদ্যান 45 m লম্বা এবং 30 m চওড়া। উদ্যানের বাইরের দিকে 2.5 m চওড়া রাস্তা তৈরি করা হয়। রাস্তার ক্ষেত্রফল হল —

- (1) 1750 m<sup>2</sup>
- (2) 1250 m<sup>2</sup>
- (3) 400 m<sup>2</sup>
- (4) 500 m<sup>2</sup>

Options :

- 212807118963 1  
212807118966 2  
212807118967 3  
212807118965 4

Question Number : 25\* Question Id : 21280729742 Question Type : MCQ Option Shuffling : No Is Question Mandatory : No Calculator : None  
Response Time : N.A Think Time : N.A Minimum Instruction Time : 0

Correct Marks : 5 Wrong Marks : 1

Question Key Details :

Key	Value
Comprehension	MCQ

एक आयताकृती उद्यान 45 मी. लांब आणि 30 मी. रुंद आहे, या उद्यानाच्या सर्व बाजूंस 2.5 मी. रुंदीचा रस्ता बांधण्यात आला. त्या रस्त्याचे क्षेत्रफळ किती असेल ?

- (1)  $1750 \text{ m}^2$
- (2)  $1250 \text{ m}^2$
- (3)  $400 \text{ m}^2$
- (4)  $500 \text{ m}^2$

Options :

212807118965-1

212807118965-2

212807118965-3

212807118965-4

Question Number : 257 Question Id : 21280729742 Question Type : MCQ Option Shuffling : No Is Question Mandatory : No Calculator : None Response Time : N.A Think Time : N.A Minimum Instruction Time : 0

Correct Marks : 5 Wrong Marks : 1

Question Key Details :

Key	Value
Comprehension	MCQ

ചത്തൂർ അക്ഷയിയിലുള്ള ഒരു പാർക്കിന് 45 മീറ്റർ നീളവും 30 മീറ്റർ വീതിയുമുണ്ട്. പാർക്കിന് പുറത്തു പാർക്കിന് ചുറ്റിലുമായി 2.5 മീറ്റർ വീതിയിൽ വഴി നിർമ്മിക്കുന്നു. വഴിയുടെ വിസ്തീർണ്ണം എത്ര ?

- (1)  $1750 \text{ m}^2$
- (2)  $1250 \text{ m}^2$
- (3)  $400 \text{ m}^2$
- (4)  $500 \text{ m}^2$

Options :

212807118965-1

212807118965-2

212807118965-3

212807118965-4

Question Number : 257 Question Id : 21280729742 Question Type : MCQ Option Shuffling : No Is Question Mandatory : No Calculator : None Response Time : N.A Think Time : N.A Minimum Instruction Time : 0

Correct Marks : 5 Wrong Marks : 1

Question Key Details :

Key	Value
Comprehension	MCQ

ରୋଡିଏ ଆଇଡାବାଇ ଉଦ୍ୟାନର ଦମ 45 ମିଟର ଏବଂ ରୂଢ଼ା 30 ମିଟର । ପାର୍ (ଉଦ୍ୟାନ)ର ବାହ୍ୟ ରୂପାଂଶ୍ରେ 2.5 ମିଟର ରୂଢ଼ା ରାସ୍ତା (ପଥ) ତିଆରି କରାଗଲା । ତେବେ ରାସ୍ତା (ପଥ)ର କ୍ଷେତ୍ରଫଳ କେତେ ହେବ ?

- (1)  $1750 \text{ m}^2$
- (2)  $1250 \text{ m}^2$
- (3)  $400 \text{ m}^2$
- (4)  $500 \text{ m}^2$

Options :

212807118965-1

212807118965-2

212807118965-3

212807118968-4

Question Number : 257 Question Id : 21280719742 Question Type : MCQ Option Shuffling : No Is Question Mandatory : No Calculator : None  
Response Time : N.A Think Time : N.A Minimum Instruction Time : 0

Correct Marks : 5 Wrong Marks : 1

Question Key Details :

Key	Value
Comprehension	MCQ

ਇਕ ਆਇਤਾਕਾਰ ਖਾਰਕ 45 ਮੀਟਰ ਲੰਬਾ ਹੈ 30 ਮੀਟਰ ਚੌੜਾ ਹੈ, ਖਾਰਕ ਦੇ ਬਾਹਰ 2.5 ਮੀਟਰ ਚੌੜਾ ਰਸਤਾ ਇਕੱਲੇ ਹੀ ਬਣਾਇਆ ਗਿਆ ਹੈ, ਉਸ ਰਸਤੇ ਦਾ ਵਰਗਮੀਟਰ ਹੈ -

- (1) 1750 ਮੀਟਰ<sup>2</sup>
- (2) 1250 ਮੀਟਰ<sup>2</sup>
- (3) 400 ਮੀਟਰ<sup>2</sup>
- (4) 500 ਮੀਟਰ<sup>2</sup>

Options :

212807118968-1

212807118968-2

212807118968-3

212807118968-4

Question Number : 257 Question Id : 21280719742 Question Type : MCQ Option Shuffling : No Is Question Mandatory : No Calculator : None  
Response Time : N.A Think Time : N.A Minimum Instruction Time : 0

Correct Marks : 5 Wrong Marks : 1

Question Key Details :

Key	Value
Comprehension	MCQ

ਸੇਵਲਕਪ ਪੂਰੁੰਗਕਾ 45 ਮੀਟਰ ਚੌੜਾ 30 ਮੀਟਰ ਅਕਲਮੁੰ ਕੋਕਾਣੁੰ .  
ਪੂਰੁੰਗਕਾਕੁਕੁ ਕੋਕੁੰਗੁੰ 2.5 ਮੀਟਰ ਅਕਲਕੁੰਕੁੰ ਪਾਠੇ ਅਮੇਕੁੰਕੁੰਕੁੰਕੁੰ .  
ਪਾਠੇਕੁੰਕੁੰ ਪਰੁੰਪੁੰਗੁੰ :

- (1) 1750 ਮੀ<sup>2</sup>
- (2) 1250 ਮੀ<sup>2</sup>
- (3) 400 ਮੀ<sup>2</sup>
- (4) 500 ਮੀ<sup>2</sup>

Options :

212807118968-1

212807118968-2

212807118968-3

212807118968-4

Question Number : 257 Question Id : 21280719742 Question Type : MCQ Option Shuffling : No Is Question Mandatory : No Calculator : None  
Response Time : N.A Think Time : N.A Minimum Instruction Time : 0

Correct Marks : 5 Wrong Marks : 1

Question Key Details :

Key	Value
Comprehension	MCQ



45-m పొడవు మరియు 30 m వెడల్పు గల దీర్ఘచతురస్ర పొద్దు చుట్టు వెలుపలి వైపు 2.5 m వెడల్పుతో దారిని నిర్మించారు. ఆ దారి వైశాల్యం ?

- (1)  $1750 \text{ m}^2$
- (2)  $1250 \text{ m}^2$
- (3)  $400 \text{ m}^2$
- (4)  $500 \text{ m}^2$

Options :

- 212807118965 1  
212807118966 1  
212807118967 3  
212807118968 4

Question Number : 257 Question Id : 21280729742 Question Type : MCQ Option Shuffling : No Is Question Mandatory : No Calculator : None  
Response Time : N.A Think Time : N.A Minimum Instruction Time : 0

Correct Marks : 5 Wrong Marks : 1

Question Key Details :

Key	Value
Comprehension	MCQ

ایک مستطیل نما پارک 45 میٹر لمبا اور 30 میٹر چوڑا ہے اور ایک 2.5 میٹر چوڑا راستہ پارک کے باہر سے لگا ہوا بنایا گیا ہے۔ تو راستے کا رقبہ \_\_\_\_\_ ہوگا ؟

- (1)  $1750 \text{ m}^2$
- (2)  $1250 \text{ m}^2$
- (3)  $400 \text{ m}^2$
- (4)  $500 \text{ m}^2$

Options :

- 212807118965 1  
212807118966 1  
212807118967 3  
212807118968 4

Question Number : 258 Question Id : 21280729743 Question Type : MCQ Option Shuffling : No Is Question Mandatory : No Calculator : None  
Response Time : N.A Think Time : N.A Minimum Instruction Time : 0

Correct Marks : 5 Wrong Marks : 1

Question Key Details :

Key	Value
Comprehension	MCQ

The area of a triangle is  $9y \text{ cm}^2$ . Find the value of  $y$  if its area is equal to the area of an equilateral triangle having side 6 cm.

- (1) 2
- (2)  $\sqrt{2}$
- (3) 3
- (4)  $\sqrt{3}$

Options :

- 212807118969 1  
212807118970 1

212507113971:3  
212507113972:4

Question Number : 258 Question Id : 21250729743 Question Type : MCQ Option Shuffling : No Is Question Mandatory : No Calculator : None  
Response Time : N.A Think Time : N.A Minimum Instruction Time : 0  
Correct Marks : 5 Wrong Marks : 1

Question Key Details :

Key	Value
Comprehension	MCQ

एक त्रिभुज का क्षेत्रफल  $9y$  सेमी<sup>2</sup> है। तो  $y$  का मान ज्ञात कीजिए, यदि इसका क्षेत्रफल एक ऐसे समबाहु त्रिभुज के क्षेत्रफल के समान है, जिसकी भुजा 6 सेमी है।

- (1) 2  
(2)  $\sqrt{2}$   
(3) 3  
(4)  $\sqrt{3}$

Options :

212507113969:1  
212507113970:2  
212507113971:3  
212507113972:4

Question Number : 258 Question Id : 21250729743 Question Type : MCQ Option Shuffling : No Is Question Mandatory : No Calculator : None  
Response Time : N.A Think Time : N.A Minimum Instruction Time : 0

Correct Marks : 5 Wrong Marks : 1

Question Key Details :

Key	Value
Comprehension	MCQ

एक त्रिभुज की कालि क्षेत्र 9y cm<sup>2</sup> है। यदि त्रिभुज की कालि 6 cm है तो एक समबाहु त्रिभुज की कालि के क्षेत्र में y का मान कि-  
है ?

- (1) 2  
(2)  $\sqrt{2}$   
(3) 3  
(4)  $\sqrt{3}$

Options :

212507113969:1  
212507113970:2  
212507113971:3  
212507113972:4

Question Number : 258 Question Id : 21250729743 Question Type : MCQ Option Shuffling : No Is Question Mandatory : No Calculator : None  
Response Time : N.A Think Time : N.A Minimum Instruction Time : 0

Correct Marks : 5 Wrong Marks : 1

Question Key Details :

Key	Value
Comprehension	MCQ

একটি ত্রিকোণের ক্ষেত্রফল  $9y \text{ cm}^2$ । যদি এর ক্ষেত্রফল একটি  $6 \text{ cm}$  বাহু বিশিষ্ট একটি সমবাহু ত্রিকোণের ক্ষেত্রফলের সমান হয়, তাহলে  $y$ -এর মান হবে—

- (1) 2  
 (2)  $\sqrt{2}$   
 (3) 3  
 (4)  $\sqrt{3}$

Options :

- 212807118969 1  
 212807118970 2  
 212807118971 3  
 212807118972 4

Question Number : 258 Question Id : 21280719743 Question Type : MCQ Option Shuffling : No Is Question Mandatory : No Calculator : None  
 Response Time : N.A Think Time : N.A Minimum Instruction Time : 0  
 Correct Marks : 5 Wrong Marks : 1

Question Key Details :

Key	Value
Comprehension	MCQ

ত্রিকোণটির বিস্তার  $9y \text{ cm}^2$ ।  $y$ -এর মান নির্ণয় করতে ত্রিকোণটির ক্ষেত্রফল  $6 \text{ cm}$  বাহু বিশিষ্ট সমবাহু ত্রিকোণের (equilateral triangle) ক্ষেত্রফল (বিস্তার) নির্ণয় করতে হবে।

- (1) 2  
 (2)  $\sqrt{2}$   
 (3) 3  
 (4)  $\sqrt{3}$

Options :

- 212807118969 1  
 212807118970 2  
 212807118971 3  
 212807118972 4

Question Number : 258 Question Id : 21280719743 Question Type : MCQ Option Shuffling : No Is Question Mandatory : No Calculator : None  
 Response Time : N.A Think Time : N.A Minimum Instruction Time : 0  
 Correct Marks : 5 Wrong Marks : 1

Question Key Details :

Key	Value
Comprehension	MCQ

একটি ত্রিকোণের ক্ষেত্রফল  $9y \text{ cm}^2$ । ত্রিকোণটির ক্ষেত্রফল  $6 \text{ cm}$  বাহু বিশিষ্ট সমবাহু ত্রিকোণের (equilateral triangle) ক্ষেত্রফল (বিস্তার) নির্ণয় করতে হবে।

- (1) 2  
 (2)  $\sqrt{2}$   
 (3) 3  
 (4)  $\sqrt{3}$

Options :

- 212807118969 1  
 212807118970 2  
 212807118971 3  
 212807118972 4

Question Number : 258 Question Id : 212607189743 Question Type : MCQ Option Shuffling : No Is Question Mandatory : No Calculator : None  
Response Time : N.A Think Time : N.A Minimum Instruction Time : 0

Correct Marks : 5 Wrong Marks : 1

Question Key Details :

Key	Value
Comprehension	MCQ

एका त्रिकोणाचे क्षेत्रफळ  $9y \text{ cm}^2$  इतके आहे. जर 6 से.मी. बाजू असलेल्या एका समभुज त्रिकोणाच्या क्षेत्रफळाइतकेच याचे क्षेत्रफळ असेल तर  $y$  चे मूल्य शोधा.

- (1) 2  
(2)  $\sqrt{2}$   
(3) 3  
(4)  $\sqrt{3}$

Options :

21260718969 1

21260718970 2

21260718971 3

21260718972 4

Question Number : 258 Question Id : 212607189743 Question Type : MCQ Option Shuffling : No Is Question Mandatory : No Calculator : None  
Response Time : N.A Think Time : N.A Minimum Instruction Time : 0

Correct Marks : 5 Wrong Marks : 1

Question Key Details :

Key	Value
Comprehension	MCQ

ഒരു त्रिकोणासाठीचे क्षेत्रफळ  $9y \text{ cm}^2$  आहे. या त्रिकोणासाठीचे क्षेत्रफळ 6 से.मी. बाजू असलेल्या एका समभुज त्रिकोणाच्या क्षेत्रफळाइतकेच असेल तर  $y$  चे मूल्य शोधा.

- (1) 2  
(2)  $\sqrt{2}$   
(3) 3  
(4)  $\sqrt{3}$

Options :

21260718969 1

21260718970 2

21260718971 3

21260718972 4

Question Number : 258 Question Id : 212607189743 Question Type : MCQ Option Shuffling : No Is Question Mandatory : No Calculator : None  
Response Time : N.A Think Time : N.A Minimum Instruction Time : 0

Correct Marks : 5 Wrong Marks : 1

Question Key Details :

Key	Value
Comprehension	MCQ

ਜ਼ੋਨ ਵਿੱਚ ਉੱਚਾਈ ਖੇਤਰ  $9y \text{ cm}^2$ ।  $y$  ਦੇ ਮੁੱਲ ਨਿਰਧਾਰਿਤ ਕਰੋ, ਜਦੋਂ  $y$  ਜ਼ੋਨ ਵਿੱਚ  $6 \text{ cm}$  ਦੀ ਖੁੱਲ੍ਹੀ ਖੇਤਰ ਖੇਤਰ ਖੇਤਰ ਹੈ।

- (1) 2  
 (2)  $\sqrt{2}$   
 (3) 3  
 (4)  $\sqrt{3}$

Options :

- 212807118969 1  
 212807118970 2  
 212807118971 3  
 212807118972 4

Question Number : 258 Question Id : 21280719743 Question Type : MCQ Option Shuffling : No Is Question Mandatory : No Calculator : None  
 Response Time : N.A Think Time : N.A Minimum Instruction Time : 0  
 Correct Marks : 5 Wrong Marks : 1

Question Key Details :

Key	Value
Comprehension	MCQ

ਇੱਕ ਤਿਕੋਣ ਦਾ ਵਰਗਮੀਟਰ  $9y \text{ cm}^2$  ਹੈ।  $y$  ਦਾ ਮੁੱਲ ਦੱਸੋ ਜੇ ਤਿਕੋਣ ਨੂੰ ਇਸ ਤਰੀਕੇ ਨਾਲ ਖਿੱਚਿਆ ਗਿਆ ਹੈ ਕਿ ਇਸਦਾ ਵਰਗਮੀਟਰ  $6$  ਮੀਟਰ ਦੇ ਪਾਸੇ ਖਿੱਚੇ ਗਏ ਸਮਕੋਣ ਤਿਕੋਣ ਦੇ ਵਰਗਮੀਟਰ ਦੇ ਬਰਾਬਰ ਹੈ -

- (1) 2  
 (2)  $\sqrt{2}$   
 (3) 3  
 (4)  $\sqrt{3}$

Options :

- 212807118969 1  
 212807118970 2  
 212807118971 3  
 212807118972 4

Question Number : 258 Question Id : 21280719743 Question Type : MCQ Option Shuffling : No Is Question Mandatory : No Calculator : None  
 Response Time : N.A Think Time : N.A Minimum Instruction Time : 0  
 Correct Marks : 5 Wrong Marks : 1

Question Key Details :

Key	Value
Comprehension	MCQ

ਇੱਕ ਸਮਕੋਣ ਤਿਕੋਣ ਵਿੱਚ ਇੱਕ ਪਾਸੇ ਦੀ ਲੰਬਾਈ  $90$  ਸੇ.ਮੀ.  $y$  ਅਤੇ ਦੂਜੇ ਪਾਸੇ ਦੀ ਲੰਬਾਈ  $6$  ਸੇ.ਮੀ. ਦਿੱਤੀ ਗਈ ਹੈ। ਤਿਕੋਣ ਦਾ ਖੇਤਰ ਕੀ ਹੈ।

- (1) 2  
 (2)  $\sqrt{2}$   
 (3) 3  
 (4)  $\sqrt{3}$

Options :

- 212807118969 1  
 212807118970 2

112507118971-3  
112507118972-4

Question Number : 258 Question Id : 11250719743 Question Type : MCQ Option Shuffling : No Is Question Mandatory : No Calculator : None  
Response Time : N.A Think Time : N.A Minimum Instruction Time : 0

Correct Marks : 5 Wrong Marks : 1

Question Key Details :

Key	Value
Comprehension	MCQ

ఒక త్రిభుజ వైశాల్యం  $9y \text{ cm}^2$ . దాని వైశాల్యం ఒక  $6 \text{ cm}$  భుజం గల సమబాహు త్రిభుజ వైశాల్యానికి సమానమైతే,  $y$  విలువ తనుకోండి.

- (1) 2  
(2)  $\sqrt{2}$   
(3) 3  
(4)  $\sqrt{3}$

Options :

112507118969-1  
112507118970-2  
112507118971-3  
112507118972-4

Question Number : 258 Question Id : 11250719743 Question Type : MCQ Option Shuffling : No Is Question Mandatory : No Calculator : None  
Response Time : N.A Think Time : N.A Minimum Instruction Time : 0

Correct Marks : 5 Wrong Marks : 1

Question Key Details :

Key	Value
Comprehension	MCQ

ఒక త్రిభుజ వైశాల్యం  $9y \text{ cm}^2$  అయితే దాని వైశాల్యం ఒక  $6 \text{ cm}$  భుజం గల సమబాహు త్రిభుజ వైశాల్యానికి సమానమైతే,  $y$  విలువ తనుకోండి.

- (1) 2  
(2)  $\sqrt{2}$   
(3) 3  
(4)  $\sqrt{3}$

Options :

112507118969-1  
112507118970-2  
112507118971-3  
112507118972-4

Question Number : 258 Question Id : 11250719744 Question Type : MCQ Option Shuffling : No Is Question Mandatory : No Calculator : None  
Response Time : N.A Think Time : N.A Minimum Instruction Time : 0

Correct Marks : 5 Wrong Marks : 1

Question Key Details :

Key	Value
Comprehension	MCQ

If three vertices of a rhombus taken in order are  $(2, -1)$ ,  $(3, 4)$  and  $(-2, 3)$ , then the fourth vertex is :

- (1)  $(-3, -2)$
- (2)  $(3, 2)$
- (3)  $(2, 3)$
- (4)  $(1, 2)$

Options :

112807118973.1

112807118974.2

112807118975.3

112807118976.4

Question Number : 258 Question Id : 11280719744 Question Type : MCQ Option Shuffling : No Is Question Mandatory : No Calculator : None Response Time : N.A Think Time : N.A Minimum Instruction Time : 0

Correct Marks : 5 Wrong Marks : 1

Question Key Details :

Key	Value
Comprehension	MCQ

यदि एक समचतुर्भुज के तीन शीर्ष  $(2, -1)$ ,  $(3, 4)$  और  $(-2, 3)$  के क्रम में हैं तो चौथा शीर्ष क्या है ?

- (1)  $(-3, -2)$
- (2)  $(3, 2)$
- (3)  $(2, 3)$
- (4)  $(1, 2)$

Options :

112807118973.1

112807118974.2

112807118975.3

112807118976.4

Question Number : 259 Question Id : 11280719744 Question Type : MCQ Option Shuffling : No Is Question Mandatory : No Calculator : None Response Time : N.A Think Time : N.A Minimum Instruction Time : 0

Correct Marks : 5 Wrong Marks : 1

Question Key Details :

Key	Value
Comprehension	MCQ

যদি এটা সম্ভ্রুজ তিনটা শীৰ্ষবিন্দু ক্ৰমান্বয়ে  $(2, -1)$ ,  $(3, 4)$  আৰু  $(-2, 3)$  হয়, তেন্তে চতুৰ্থ শীৰ্ষ বিন্দুটো হ'ব :

- (1)  $(-3, -2)$
- (2)  $(3, 2)$
- (3)  $(2, 3)$
- (4)  $(1, 2)$

Options :

112807118973.1

112807118974.2

112807118975.3

112807118976.4

Question Number : 259 Question Id : 11280719744 Question Type : MCQ Option Shuffling : No Is Question Mandatory : No Calculator : None Response Time : N.A Think Time : N.A Minimum Instruction Time : 0

Correct Marks : 5 Wrong Marks : 1

Question Key Details :

Key	Value
Comprehension	MCQ

একটি রাস্থের তিনটি শীর্ষবিন্দুর ক্রম  $(2, -1)$ ,  $(3, 4)$  এবং  $(-2, 3)$  লেখা হয়, তবে চতুর্থ শীর্ষবিন্দুটি হবে —

- (1)  $(-3, -2)$
- (2)  $(3, 2)$
- (3)  $(2, 3)$
- (4)  $(1, 2)$

Options :

212807118973 1

212807118974 2

212807118975 3

212807118976 4

Question Number : 259 Question Id : 21280719744 Question Type : MCQ Option Shuffling : No Is Question Mandatory : No Calculator : None  
Response Time : N.A Think Time : N.A Minimum Instruction Time : 0

Correct Marks : 5 Wrong Marks : 1

Question Key Details :

Key	Value
Comprehension	MCQ

ত্রিভুজটির শীর্ষবিন্দুগুলোর ক্রম  $(2, -1)$ ,  $(3, 4)$  এবং  $(-2, 3)$  দেওয়া আছে, তবে চতুর্থ শীর্ষবিন্দুটি হবে —

যদিও ত্রিভুজটির শীর্ষবিন্দুগুলোর ক্রম  $(2, -1)$ ,  $(3, 4)$  এবং  $(-2, 3)$  দেওয়া আছে, তবে চতুর্থ শীর্ষবিন্দুটি হবে —

- (1)  $(-3, -2)$
- (2)  $(3, 2)$
- (3)  $(2, 3)$
- (4)  $(1, 2)$

Options :

212807118973 1

212807118974 2

212807118975 3

212807118976 4

Question Number : 259 Question Id : 21280719744 Question Type : MCQ Option Shuffling : No Is Question Mandatory : No Calculator : None  
Response Time : N.A Think Time : N.A Minimum Instruction Time : 0

Correct Marks : 5 Wrong Marks : 1

Question Key Details :

Key	Value
Comprehension	MCQ

একটি ত্রিভুজের তিনটি শীর্ষবিন্দুর ক্রম  $(2, -1)$ ,  $(3, 4)$  এবং  $(-2, 3)$  দেওয়া আছে, তবে চতুর্থ শীর্ষবিন্দুটি হবে —

যদিও ত্রিভুজটির শীর্ষবিন্দুগুলোর ক্রম  $(2, -1)$ ,  $(3, 4)$  এবং  $(-2, 3)$  দেওয়া আছে, তবে চতুর্থ শীর্ষবিন্দুটি হবে —

- (1)  $(-3, -2)$
- (2)  $(3, 2)$
- (3)  $(2, 3)$
- (4)  $(1, 2)$

Options :

212807118973 1

212807118974 2

212807118975 3

212807118976 4

Question Number : 259 Question Id : 21280719744 Question Type : MCQ Option Shuffling : No Is Question Mandatory : No Calculator : None  
Response Time : N.A Think Time : N.A Minimum Instruction Time : 0

Correct Marks : 5 Wrong Marks : 1

Question Key Details :



Key	Value
Comprehension	MCQ

एका समभुज चौकोनाचे तीन शीर्षबिंदू क्रमाने  $(2, -1)$ ,  $(3, 4)$  आणि  $(-2, 3)$  असे घेतल्यास चौथा शीर्ष बिंदू  
असेल.

- (1)  $(-3, -2)$
- (2)  $(3, 2)$
- (3)  $(2, 3)$
- (4)  $(1, 2)$

Options :

- 212807118973 1  
212807118974 1  
212807118975 3  
212807118976 4

Question Number : 259 Question Id : 21280719744 Question Type : MCQ Option Shuffling : No Is Question Mandatory : No Calculator : None  
Response Time : N.A Think Time : N.A Minimum Instruction Time : 0

Correct Marks : 5 Wrong Marks : 1

Question Key Details :

Key	Value
Comprehension	MCQ

ഒരു സമ ചതുർഭुജത്തിന്റെ മൂന്ന് ശീർഷകങ്ങൾ ക്രമമായി  $(2, -1)$ ,  $(3, 4)$ ,  $(-2, 3)$  ആണെങ്കിൽ,  
നാലാമത്തെ ശീർഷകം താഴെ തന്നിരിക്കുന്നതിൽ ഏതായിരിക്കും ?

- (1)  $(-3, -2)$
- (2)  $(3, 2)$
- (3)  $(2, 3)$
- (4)  $(1, 2)$

Options :

- 212807118973 1  
212807118974 1  
212807118975 3  
212807118976 4

Question Number : 259 Question Id : 21280719744 Question Type : MCQ Option Shuffling : No Is Question Mandatory : No Calculator : None  
Response Time : N.A Think Time : N.A Minimum Instruction Time : 0

Correct Marks : 5 Wrong Marks : 1

Question Key Details :

Key	Value
Comprehension	MCQ

രേഖി-4 നമുക്കു തിരിച്ചറിയാൻ കഴിയുന്ന രേഖ  $(2, -1)$ ,  $(3, 4)$  -ന്  $(-2, 3)$ , രേഖ-5-ന്റെ തിരിച്ചറിവ് :

- (1)  $(-3, -2)$
- (2)  $(3, 2)$
- (3)  $(2, 3)$
- (4)  $(1, 2)$

Options :

- 212807118973 1  
212807118974 1  
212807118975 3  
212807118976 4

Question Number : 259 Question Id : 21280719744 Question Type : MCQ Option Shuffling : No Is Question Mandatory : No Calculator : None  
Response Time : N.A Think Time : N.A Minimum Instruction Time : 0

Correct Marks : 5 Wrong Marks : 1

Question Key Details :

Key	Value
Comprehension	MCQ

ਲਏ ਗਏ ਚੌਖਟਾਂ ਦੇ ਤਿੰਨ ਸਿਰਿਆਂ ਵਿਚ ਤਰਤੀਬਵਾਰ ਵਰਗ ਮੀਟਰ ਹੈ  $(2, -1)$ ,  $(3, 4)$  ਅਤੇ  $(-2, 3)$ , ਤਾਂ ਚੌਥਾ ਸਿਖਰ/ਚੋਟੀ ਹੈ :

- (1)  $(-3, -2)$
- (2)  $(3, 2)$
- (3)  $(2, 3)$
- (4)  $(1, 2)$

Options :

212807118973 1

212807118974 2

212807118975 3

212807118976 4

Question Number : 259 Question Id : 21280719744 Question Type : MCQ Option Shuffling : No Is Question Mandatory : No Calculator : None Response Time : N.A Think Time : N.A Minimum Instruction Time : 0

Correct Marks : 5 Wrong Marks : 1

Question Key Details :

Key	Value
Comprehension	MCQ

ஒரு கோம்பளின் மூன்று வெற்றிடங்கள் வரிசையாக எடுத்துக் கொள்ளப்பட்டால் அவை  $(2, -1)$ ,  $(3, 4)$  மற்றும்  $(-2, 3)$ , பின்னர் நான்காவது வெற்றிடங்கள் :

- (1)  $(-3, -2)$
- (2)  $(3, 2)$
- (3)  $(2, 3)$
- (4)  $(1, 2)$

Options :

212807118973 1

212807118974 2

212807118975 3

212807118976 4

Question Number : 259 Question Id : 21280719744 Question Type : MCQ Option Shuffling : No Is Question Mandatory : No Calculator : None Response Time : N.A Think Time : N.A Minimum Instruction Time : 0

Correct Marks : 5 Wrong Marks : 1

Question Key Details :

Key	Value
Comprehension	MCQ

రాంబస్ యొక్క మూడు శీర్షాలు పరుసగా  $(2, -1)$ ,  $(3, 4)$  మరియు  $(-2, 3)$  అయితే, నాల్గవ శీర్షం :

- (1)  $(-3, -2)$
- (2)  $(3, 2)$
- (3)  $(2, 3)$
- (4)  $(1, 2)$

Options :

212807118973 1

212807118974 2

212807118973 3  
212807118976 4

Question Number : 259 Question Id : 21280719744 Question Type : MCQ Option Shuffling : No Is Question Mandatory : No Calculator : None  
Response Time : N.A Think Time : N.A Minimum Instruction Time : 0

Correct Marks : 5 Wrong Marks : 1

Question Key Details :

Key	Value
Comprehension	MCQ

اگر ایک دائرہ میں (معیّن) کے تین راس کی ترتیب ہے :  $(2, -1)$ ,  $(3, 4)$  اور  $(-2, 3)$  تو چوتھا راس ہے :

$(-3, -2)$  (1)

$(3, 2)$  (2)

$(2, 3)$  (3)

$(1, 2)$  (4)

Options :

212807118973 1  
212807118974 2  
212807118975 3  
212807118976 4

Question Number : 260 Question Id : 21280719745 Question Type : MCQ Option Shuffling : No Is Question Mandatory : No Calculator : None  
Response Time : N.A Think Time : N.A Minimum Instruction Time : 0

Correct Marks : 5 Wrong Marks : 1

Question Key Details :

Key	Value
Comprehension	MCQ

The mean and the median of a certain data are 13.3 and 13.5 respectively. Find the mode.

(1) 13.7

(2) 13.8

(3) 13.9

(4) 12.9

Options :

212807118977 1  
212807118978 2  
212807118979 3  
212807118980 4

Question Number : 260 Question Id : 21280719745 Question Type : MCQ Option Shuffling : No Is Question Mandatory : No Calculator : None  
Response Time : N.A Think Time : N.A Minimum Instruction Time : 0

Correct Marks : 5 Wrong Marks : 1

Question Key Details :

Key	Value
Comprehension	MCQ

किन्हीं आँकड़ों के माध्य और माध्यिक क्रमशः 13.3 और 13.5 हैं। इनका बहुलक क्या है ?

(1) 13.7

(2) 13.8

(3) 13.9

(4) 12.9

Options :

212807118977.1  
212807118978.2  
212807118979.3  
212807118980.4

Question Number : 260 Question Id : 21280729745 Question Type : MCQ Option Shuffling : No Is Question Mandatory : No Calculator : None  
Response Time : N.A Think Time : N.A Minimum Instruction Time : 0

Correct Marks : 5 Wrong Marks : 1

Question Key Details :

Key	Value
Comprehension	MCQ

কোনো তথ্যের মাত্র আধ মধ্যম যদি জনসংখ্যা 13.3 আৰু 13.5 হয়। তেহে বহুলক উলিওবাঃ

- (1) 13.7
- (2) 13.8
- (3) 13.9
- (4) 12.9

Options :

212807118977.1  
212807118978.2  
212807118979.3  
212807118980.4

Question Number : 260 Question Id : 21280729745 Question Type : MCQ Option Shuffling : No Is Question Mandatory : No Calculator : None  
Response Time : N.A Think Time : N.A Minimum Instruction Time : 0

Correct Marks : 5 Wrong Marks : 1

Question Key Details :

Key	Value
Comprehension	MCQ

কোনো নির্দিষ্ট তথ্যের গড় ও মধ্যমের ব্যতিক্রমে 13.3 এবং 13.5। সংখ্যাগুরুমান নির্ণয় করো।

- (1) 13.7
- (2) 13.8
- (3) 13.9
- (4) 12.9

Options :

212807118977.1  
212807118978.2  
212807118979.3  
212807118980.4

Question Number : 260 Question Id : 21280729745 Question Type : MCQ Option Shuffling : No Is Question Mandatory : No Calculator : None  
Response Time : N.A Think Time : N.A Minimum Instruction Time : 0

Correct Marks : 5 Wrong Marks : 1

Question Key Details :

Key	Value
Comprehension	MCQ

অক্ষয় মাহিতী (ডেটা)নী সংবেদন আৰু মধ্যম অনুক্রমে 13.3 আৰু 13.5 ছে। বহুলক সোধো.

- (1) 13.7
- (2) 13.8
- (3) 13.9
- (4) 12.9

Options :

212807118977.1

212807118978 1  
212807118979 3  
212807118980 4

Question Number : 260 Question Id : 21280729745 Question Type : MCQ Option Shuffling : No Is Question Mandatory : No Calculator : None  
Response Time : N.A Think Time : N.A Minimum Instruction Time : 0  
Correct Marks : 5 Wrong Marks : 1  
Question Key Details :

Key	Value
Comprehension	MCQ

ಒಂದು ನಿರ್ದಿಷ್ಟ ದಶಾಂಕದ ಸರಾಸರಿ ಮತ್ತು ಪುನರಾವರ್ತಿತ ಕ್ರಮವಾಗಿ 13.3 ಮತ್ತು 13.5 ಪರಮಾವರ್ತಿಯನ್ನು (Mode) ಕಂಡುಹಿಡಿಯಿರಿ.

- (1) 13.7
- (2) 13.8
- (3) 13.9
- (4) 12.9

Options :  
212807118977 1  
212807118978 1  
212807118979 3  
212807118980 4

Question Number : 260 Question Id : 21280729745 Question Type : MCQ Option Shuffling : No Is Question Mandatory : No Calculator : None  
Response Time : N.A Think Time : N.A Minimum Instruction Time : 0  
Correct Marks : 5 Wrong Marks : 1  
Question Key Details :

Key	Value
Comprehension	MCQ

एका विशिष्ट विवेचा मध्य आणि मध्यक अनुक्रमे 13.3 आणि 13.5 आहे. बहुलक शोधा.

- (1) 13.7
- (2) 13.8
- (3) 13.9
- (4) 12.9

Options :  
212807118977 1  
212807118978 1  
212807118979 3  
212807118980 4

Question Number : 260 Question Id : 21280729745 Question Type : MCQ Option Shuffling : No Is Question Mandatory : No Calculator : None  
Response Time : N.A Think Time : N.A Minimum Instruction Time : 0  
Correct Marks : 5 Wrong Marks : 1  
Question Key Details :

Key	Value
Comprehension	MCQ

ഒരു കൂട്ടം സംഖ്യകളുടെ മധ്യം 13.3 ഉം മധ്യം 13.5 ഉം ആണെങ്കിൽ അവയുടെ മോഡ് കണ്ടുപിടിക്കുക.

- (1) 13.7
- (2) 13.8
- (3) 13.9
- (4) 12.9

Options :

- 212807118977 1
- 212807118978 2
- 212807118979 3
- 212807118980 4

Question Number : 160 Question Id : 21280729745 Question Type : MCQ Option Shuffling : No Is Question Mandatory : No Calculator : None  
Response Time : N.A Think Time : N.A Minimum Instruction Time : 0

Correct Marks : 5 Wrong Marks : 1

Question Key Details :

Key	Value
Comprehension	MCQ

ਗ਼ੋਰੀਵ ਭਾਗ (ਬਾਭਾ ਬਨੂਫ) ਦੇ ਨਾਮ 'ਬਰ' ਨਯਨਾ ਚਣਕੁਏ 13.3 'ਬਰ' 13.5। ਚੜੀਭਰ (mode) ਕੂ ਚਾਕਾਰ ਕਰਕੁ।

- (1) 13.7
- (2) 13.8
- (3) 13.9
- (4) 12.9

Options :

- 212807118977 1
- 212807118978 2
- 212807118979 3
- 212807118980 4

Question Number : 160 Question Id : 21280729745 Question Type : MCQ Option Shuffling : No Is Question Mandatory : No Calculator : None  
Response Time : N.A Think Time : N.A Minimum Instruction Time : 0

Correct Marks : 5 Wrong Marks : 1

Question Key Details :

Key	Value
Comprehension	MCQ

ਕਿਸੇ ਖਾਸ ਡਾਟਾ ਦਾ ਮੱਧਮਾਨ ਅਤੇ ਮੱਧਚਰਤੀ 13.3 ਅਤੇ 13.5 ਕ੍ਰਮਵਾਰ ਹੈ। ਉਸਦੀ ਵਿਧੀ (ਮੋਡ) ਦੱਸੋ।

- (1) 13.7
- (2) 13.8
- (3) 13.9
- (4) 12.9

Options :

- 212807118977 1
- 212807118978 2
- 212807118979 3
- 212807118980 4

Question Number : 160 Question Id : 21280729745 Question Type : MCQ Option Shuffling : No Is Question Mandatory : No Calculator : None  
Response Time : N.A Think Time : N.A Minimum Instruction Time : 0

Correct Marks : 5 Wrong Marks : 1

Question Key Details :

Key	Value
Comprehension	MCQ

ஒரு சூறியிட்ட தரவின் சராசரி மற்றும் சராசரி முறையே 13.3 மற்றும் 13.5 ஆகும். பயன்முறையைக் கண்டறியவும்.

- (1) 13.7
- (2) 13.8
- (3) 13.9
- (4) 12.9

Options :

- 212807118977-1
- 212807118978-2
- 212807118979-3
- 212807118980-4

Question Number : 160 Question Id : 21280729745 Question Type : MCQ Option Shuffling : No Is Question Mandatory : No Calculator : None Response Time : N.A Think Time : N.A Minimum Instruction Time : 0

Correct Marks : 5 Wrong Marks : 1

Question Key Details :

Key	Value
Comprehension	MCQ

உக் ரசூல்கம் யூக்ய மூத்யமம் மூரியு மூத்ய/தம் வருஸு 13.3 மூரியு 13.5. ஐஹூதகம் கஸூகூண்டீ :

- (1) 13.7
- (2) 13.8
- (3) 13.9
- (4) 12.9

Options :

- 212807118977-1
- 212807118978-2
- 212807118979-3
- 212807118980-4

Question Number : 160 Question Id : 21280729745 Question Type : MCQ Option Shuffling : No Is Question Mandatory : No Calculator : None Response Time : N.A Think Time : N.A Minimum Instruction Time : 0

Correct Marks : 5 Wrong Marks : 1

Question Key Details :

Key	Value
Comprehension	MCQ

ایک متعین ڈیٹا کے درمیان اور اوسط ہے ہیں 13.3 اور 13.5 با ترتیب، تو بہت تیز بتائیں۔

- 13.7 (1)
- 13.8 (2)
- 13.9 (3)
- 12.9 (4)

Options :

- 212807118977-1
- 212807118978-2
- 212807118979-3
- 212807118980-4

Question Number : 261 Question Id : 21280719746 Question Type : MCQ Option Shuffling : No Is Question Mandatory : No Calculator : None  
Response Time : N.A Think Time : N.A Minimum Instruction Time : 0

Correct Marks : 5 Wrong Marks : 1

Question Key Details :

Key	Value
Comprehension	MCQ

The probability of getting a correct answer to a question is  $\frac{x}{12}$ . If the probability of not getting the correct answer is  $\frac{2}{3}$ , then what is the value of  $x$  ?

- (1) 2
- (2) 3
- (3) 4
- (4) 6

Options :

212807119981: 1

212807119982: 2

212807119983: 3

212807119984: 4

Question Number : 261 Question Id : 21280719746 Question Type : MCQ Option Shuffling : No Is Question Mandatory : No Calculator : None  
Response Time : N.A Think Time : N.A Minimum Instruction Time : 0

Correct Marks : 5 Wrong Marks : 1

Question Key Details :

Key	Value
Comprehension	MCQ

किसी प्रश्न का सही उत्तर प्राप्त करने की प्रायिकता  $\frac{x}{12}$  है। यदि सही उत्तर प्राप्त नहीं करने की प्रायिकता  $\frac{2}{3}$  है, तो  $x$  का मान क्या

है ?

- (1) 2
- (2) 3
- (3) 4
- (4) 6

Options :

212807119981: 1

212807119982: 2

212807119983: 3

212807119984: 4

Question Number : 261 Question Id : 21280719746 Question Type : MCQ Option Shuffling : No Is Question Mandatory : No Calculator : None  
Response Time : N.A Think Time : N.A Minimum Instruction Time : 0

Correct Marks : 5 Wrong Marks : 1

Question Key Details :

Key	Value
Comprehension	MCQ



এটা প্রসঙ্গ শুদ্ধ উত্তর পোকার সম্ভাবনা হচ্ছে  $\frac{x}{12}$ । যদি শুদ্ধ উত্তর নাপোকার সম্ভাবনা  $\frac{2}{3}$ , তবে  $x$  ব মান কি ?

- (1) 2  
(2) 3  
(3) 4  
(4) 6

Options :

212507118981 1  
212507118982 2  
212507118983 3  
212507118984 4

Question Number : 261 Question Id : 21250729746 Question Type : MCQ Option Shuffling : No Is Question Mandatory : No Calculator : None  
Response Time : N.A Think Time : N.A Minimum Instruction Time : 0  
Correct Marks : 5 Wrong Marks : 1

Question Key Details :

Key	Value
Comprehension	MCQ

একটি প্রসঙ্গের সঠিক উত্তর পাওয়ার সম্ভাবনা হল  $\frac{x}{12}$ । যদি সঠিক উত্তর নাপাওয়ার সম্ভাবনা  $\frac{2}{3}$  হয়, তাহলে  $x$ -এর মান কত ?

- (1) 2  
(2) 3  
(3) 4  
(4) 6

Options :

212507118981 1  
212507118982 2  
212507118983 3  
212507118984 4

Question Number : 261 Question Id : 21250729746 Question Type : MCQ Option Shuffling : No Is Question Mandatory : No Calculator : None  
Response Time : N.A Think Time : N.A Minimum Instruction Time : 0  
Correct Marks : 5 Wrong Marks : 1

Question Key Details :

Key	Value
Comprehension	MCQ

সাত্যো জন্মান মণী আযযানী সঁজাবনা  $\frac{x}{12}$  ঞে. সাত্যো জন্মান নহঁী মণযানী সঁজাবনা  $\frac{2}{3}$  ঞে. তৌ  $x$  নুঁ মূল্য শুঁ ঞে?

- (1) 2  
(2) 3  
(3) 4  
(4) 6

Options :

212507118981 1  
212507118982 2  
212507118983 3  
212507118984 4

Question Number : 261 Question Id : 21250729746 Question Type : MCQ Option Shuffling : No Is Question Mandatory : No Calculator : None  
Response Time : N.A Think Time : N.A Minimum Instruction Time : 0

Correct Marks : 5 Wrong Marks : 1

Question Key Details :

Key	Value
Comprehension	MCQ

ಸರಿಯಾದ ಉತ್ತರವನ್ನು ಪಡೆಯುವ ಸಂಭವನೀಯತೆಯು  $\frac{x}{12}$ . ಸರಿಯಲ್ಲದ ಉತ್ತರವನ್ನು ಪಡೆಯುವ ಸಂಭವನೀಯತೆಯು

$\frac{2}{3}$ . ಪಾಗಿದ್ದರೆ 'x' ನ ಮೌಲ್ಯವೇನು ?

- (1) 2
- (2) 3
- (3) 4
- (4) 6

Options :

- 212807113981 1
- 212807113982 2
- 212807113983 3
- 212807113984 4

Question Number : 261 Question Id : 21280729746 Question Type : MCQ Option Shuffling : No Is Question Mandatory : No Calculator : None  
Response Time : N.A Think Time : N.A Minimum Instruction Time : 0

Correct Marks : 5 Wrong Marks : 1

Question Key Details :

Key	Value
Comprehension	MCQ

एका प्रश्नाचे योग्य उत्तर मिळण्याची संभाव्यता  $\frac{x}{12}$  इतकी आहे. जर योग्य उत्तर न मिळण्याची संभाव्यता  $\frac{2}{3}$  असेल, तर x चे

मूल्य काय असेल ?

- (1) 2
- (2) 3
- (3) 4
- (4) 6

Options :

- 212807113981 1
- 212807113982 2
- 212807113983 3
- 212807113984 4

Question Number : 261 Question Id : 21280729746 Question Type : MCQ Option Shuffling : No Is Question Mandatory : No Calculator : None  
Response Time : N.A Think Time : N.A Minimum Instruction Time : 0

Correct Marks : 5 Wrong Marks : 1

Question Key Details :

Key	Value
Comprehension	MCQ

ഒരു ചോദ്യത്തിന് ശരിയായ ഉത്തരം കിട്ടാനുള്ള സാധ്യത  $\frac{x}{12}$  ആണ്. അതേ ചോദ്യത്തിന് ശരിയായ

ഉത്തരം കിട്ടാതിരിക്കാനുള്ള സാധ്യത  $\frac{2}{3}$  ആണെങ്കിൽ,  $x$  ന്റെ വില കണ്ടെത്തുക.

- (1) 2
- (2) 3
- (3) 4
- (4) 6

Options :

212807118981 1

212807118982 1

212807118983 1

212807118984 4

Question Number : 261 Question Id : 21280729746 Question Type : MCQ Option Shuffling : No Is Question Mandatory : No Calculator : None  
Response Time : N.A Think Time : N.A Minimum Instruction Time : 0

Correct Marks : 5 Wrong Marks : 1

Question Key Details :

Key	Value
Comprehension	MCQ

ഒരു ടിപ്പിസ്റ്റിന്റെ വേഗതയുടെ  $\frac{x}{12}$  ഭാഗം മാത്രം തിരുത്തലില്ലാതെ  $\frac{2}{3}$  ഭാഗം മാത്രം തിരുത്തലില്ലാതെ

$x$  ന്റെ മൂല്യം കണ്ടെത്തുക ?

- (1) 2
- (2) 3
- (3) 4
- (4) 6

Options :

212807118981 1

212807118982 1

212807118983 1

212807118984 4

Question Number : 261 Question Id : 21280729746 Question Type : MCQ Option Shuffling : No Is Question Mandatory : No Calculator : None  
Response Time : N.A Think Time : N.A Minimum Instruction Time : 0

Correct Marks : 5 Wrong Marks : 1

Question Key Details :

Key	Value
Comprehension	MCQ

ഒരു ടിപ്പിസ്റ്റിന്റെ വേഗതയുടെ  $\frac{x}{12}$  ഭാഗം മാത്രം തിരുത്തലില്ലാതെ  $\frac{2}{3}$  ഭാഗം മാത്രം തിരുത്തലില്ലാതെ

$x$  ന്റെ മൂല്യം കണ്ടെത്തുക ?

- (1) 2
- (2) 3
- (3) 4
- (4) 6

Options :

212807118981 1

212507113982 1  
212507113983 3  
212507113984 4

Question Number : 261 Question Id : 21250729746 Question Type : MCQ Option Shuffling : No Is Question Mandatory : No Calculator : None  
Response Time : N.A Think Time : N.A Minimum Instruction Time : 0

Correct Marks : 5 Wrong Marks : 1

Question Key Details :

Key	Value
Comprehension	MCQ

ஒரு கேள்விக்கு சரியான பதிலைப் பெறுவதற்கான சாத்தியக்கூறு  $\frac{x}{12}$  ,  
சரியான விடை கிடைக்காததற்கான சாத்தியக்கூறு இருந்தால்  $x$  இன்  
மதிப்பு என்ன  $\frac{2}{3}$  ?

- (1) 2  
(2) 3  
(3) 4  
(4) 6

Options :

212507113981 1  
212507113982 2  
212507113983 3  
212507113984 4

Question Number : 261 Question Id : 21250729746 Question Type : MCQ Option Shuffling : No Is Question Mandatory : No Calculator : None  
Response Time : N.A Think Time : N.A Minimum Instruction Time : 0

Correct Marks : 5 Wrong Marks : 1

Question Key Details :

Key	Value
Comprehension	MCQ

సరైన జవాబు వచ్చు సంభావ్యత  $\frac{x}{12}$  , సరైన జవాబు రాని సంభావ్యత  $\frac{2}{3}$  అయితే,  $x$  విలువ ఎంత ?

- (1) 2  
(2) 3  
(3) 4  
(4) 6

Options :

212507113981 1  
212507113982 2  
212507113983 3  
212507113984 4

Question Number : 261 Question Id : 21250729746 Question Type : MCQ Option Shuffling : No Is Question Mandatory : No Calculator : None  
Response Time : N.A Think Time : N.A Minimum Instruction Time : 0

Correct Marks : 5 Wrong Marks : 1

Question Key Details :

Key	Value
Comprehension	MCQ

ایک سوال کے درست جواب ہونے کا احتمال  $\frac{x}{12}$  ہے۔ اگر درست جواب نہ ہونے کا احتمال  $\frac{2}{3}$  ہو، تو  $x$  کی قدر کیا ہوگی؟

2 (1)

3 (2)

4 (3)

6 (4)

Options :

212807119981 1

212807119982 2

212807119983 3

212807119984 4

Question Number : 262 Question Id : 2128072974\* Question Type : MCQ Option Shuffling : No Is Question Mandatory : No Calculator : None Response Time : N.A Think Time : N.A Minimum Instruction Time : 0

Correct Marks : 5 Wrong Marks : 1

Question Key Details :

Key	Value
Comprehension	MCQ

In an examination the marks of six boys are 48 , 59 , 87 , 37 , 78 , and 57 respectively. The average marks of all the six boys are :

(1) 61

(2) 69

(3) 65

(4) 71

Options :

212807119985 1

212807119986 2

212807119987 3

212807119988 4

Question Number : 262 Question Id : 2128072974\* Question Type : MCQ Option Shuffling : No Is Question Mandatory : No Calculator : None Response Time : N.A Think Time : N.A Minimum Instruction Time : 0

Correct Marks : 5 Wrong Marks : 1

Question Key Details :

Key	Value
Comprehension	MCQ

एक परीक्षा में छः लड़कों के अंक क्रमशः 48 , 59 , 87 , 37 , 78 , और 57 हैं। सभी छः लड़कों के औसत अंक क्या हैं ?

(1) 61

(2) 69

(3) 65

(4) 71

Options :

212807119989 1

212807119990 2

212807119991 3

212807119992 4

Question Number : 262 Question Id : 2128072974\* Question Type : MCQ Option Shuffling : No Is Question Mandatory : No Calculator : None Response Time : N.A Think Time : N.A Minimum Instruction Time : 0

Correct Marks : 5 Wrong Marks : 1

Question Key Details :

Key	Value
Comprehension	MCQ

এটা পরীক্ষায় 6 জন ল'বই প্রাপ্ত করা নম্বর হচ্ছে ক্রমান্বয়ে 48, 59, 87, 37, 78 আৰু 57। গোটেই ছয়টা ল'বাব নম্বৰৰ গড় হৈছে—

- (1) 61
- (2) 69
- (3) 65
- (4) 71

Options :

212907118985 1  
212907118986 2  
212907118987 3  
212907118988 4

Question Number : 161 Question Id : 21280729747 Question Type : MCQ Option Shuffling : No Is Question Mandatory : No Calculator : None  
Response Time : N.A Think Time : N.A Minimum Instruction Time : 0

Correct Marks : 5 Wrong Marks : 1

Question Key Details :

Key	Value
Comprehension	MCQ

একটি পরীক্ষায় ছয়জন বালাকের প্রাপ্ত নম্বর যথাক্রমে 48, 59, 87, 37, 78 এবং 57। ছয়জন বালাকের গড় নম্বর হল—

- (1) 61
- (2) 69
- (3) 65
- (4) 71

Options :

212907118985 1  
212907118986 2  
212907118987 3  
212907118988 4

Question Number : 161 Question Id : 21280729747 Question Type : MCQ Option Shuffling : No Is Question Mandatory : No Calculator : None  
Response Time : N.A Think Time : N.A Minimum Instruction Time : 0

Correct Marks : 5 Wrong Marks : 1

Question Key Details :

Key	Value
Comprehension	MCQ

অ'ক পরীক্ষাৰ্মা ছ ছোকৰাৰ্মনা সুল্লা অ'নুকৰ্মে 48, 59, 87, 37, 78 অ'নে 57 ঠ'। অ'ধা অ' ছ ছোকৰাৰ্মা না সৰ'ব'সা সুল্লা \_\_\_\_\_ ঠ'।

- (1) 61
- (2) 69
- (3) 65
- (4) 71

Options :

212907118985 1  
212907118986 2  
212907118987 3  
212907118988 4

Question Number : 261 Question Id : 21280719747 Question Type : MCQ Option Shuffling : No Is Question Mandatory : No Calculator : None  
Response Time : N.A Think Time : N.A Minimum Instruction Time : 0

Correct Marks : 5 Wrong Marks : 1

Question Key Details :

Key	Value
Comprehension	MCQ

ಒಂದು ಪರೀಕ್ಷೆಯಲ್ಲಿ ಆರು ಹುಡುಗರ (ಬಾಲಕರ) ಅಂಕಗಳು ಕ್ರಮವಾಗಿ 48, 59, 87, 37, 78 ಮತ್ತು 57. ಎಲ್ಲಾ ಆರು ಹುಡುಗರ ಸರಾಸರಿ ಅಂಕಗಳು \_\_\_\_\_.

- (1) 61
- (2) 69
- (3) 65
- (4) 71

Options :

212807118983-1

212807118984-1

212807118987-3

212807118988-4

Question Number : 261 Question Id : 21280719747 Question Type : MCQ Option Shuffling : No Is Question Mandatory : No Calculator : None  
Response Time : N.A Think Time : N.A Minimum Instruction Time : 0

Correct Marks : 5 Wrong Marks : 1

Question Key Details :

Key	Value
Comprehension	MCQ

एका परीक्षेत सहा मुलांना अनुक्रमे 48 , 59 , 87 , 37 , 78 आणि 57 असे गुण मिळाले. या सहा मुलांच्या गुणांची सरासरी \_\_\_\_\_ इतकी असेल.

- (1) 61
- (2) 69
- (3) 65
- (4) 71

Options :

212807118983-1

212807118984-1

212807118987-3

212807118988-4

Question Number : 161 Question Id : 21180719747 Question Type : MCQ Option Shuffling : No Is Question Mandatory : No Calculator : None  
Response Time : N.A Think Time : N.A Minimum Instruction Time : 0

Correct Marks : 5 Wrong Marks : 1

Question Key Details :

Key	Value
Comprehension	MCQ

ഒരു പരീക്ഷയിൽ 6 ആൺകുട്ടികൾക്ക് കിട്ടിയ മാർക്ക് യഥാക്രമം 48 , 59 , 87 , 37 , 78 , 57 എന്നിങ്ങനെയാണ്. ഇവരുടെ ശരാശരി മാർക്ക് എത്ര ?

- (1) 61
- (2) 69
- (3) 65
- (4) 71

Options :

212807118983-1

212807118984-1

212807118983.3  
212807118983.4

Question Number : 161 Question Id : 21280719747 Question Type : MCQ Option Shuffling : No Is Question Mandatory : No Calculator : None  
Response Time : N.A Think Time : N.A Minimum Instruction Time : 0

Correct Marks : 5 Wrong Marks : 1

Question Key Details :

Key	Value
Comprehension	MCQ

ਗੋਚਿੱਖ ਪੰਨਾਸ਼ਾਹੇ ਕੁਝ ਕੁਝ ਕਾਕਰ-ਪੁਾਉ ਕਲਿਪੁਯ ਸਾਕੇ ਕੁਝਾਕੁਸੇ ਕੇਕਾ। - 48 , 59 , 87 , 37 , 78 ਅਤੇ 57। ਕਉ ਕੁਝ ਕੁਝ ਕਾਕਰਕਾ ਕਾਕਾਕਾ ਸਾਕੇ ਕੇਕੇ ?

- (1) 61
- (2) 69
- (3) 65
- (4) 71

Options :

212807118983.1  
212807118983.2  
212807118983.3  
212807118983.4

Question Number : 162 Question Id : 21280719747 Question Type : MCQ Option Shuffling : No Is Question Mandatory : No Calculator : None  
Response Time : N.A Think Time : N.A Minimum Instruction Time : 0

Correct Marks : 5 Wrong Marks : 1

Question Key Details :

Key	Value
Comprehension	MCQ

ਇਕ ਇਮਤਿਹਾਨ ਵਿਚ ਕੋ ਲੜਕਿਆਂ ਦੇ ਅੰਕ ਕ੍ਰਮਵਾਰ 48 , 59 , 87 , 37 , 78 , ਅਤੇ 57 ਹਨ। ਸਾਰੇ ਕੋ ਮੁੰਡਿਆ ਦੇ ਅੰਸਰ ਅੰਕ ਕੀ ਹਨ \_\_\_\_\_।

- (1) 61
- (2) 69
- (3) 65
- (4) 71

Options :

212807118983.1  
212807118983.2  
212807118983.3  
212807118983.4

Question Number : 163 Question Id : 21280719747 Question Type : MCQ Option Shuffling : No Is Question Mandatory : No Calculator : None  
Response Time : N.A Think Time : N.A Minimum Instruction Time : 0

Correct Marks : 5 Wrong Marks : 1

Question Key Details :

Key	Value
Comprehension	MCQ



ஒரு தேர்வில் ஆறு மாணவர்களின் மதிப்பெண்கள் முறையே 48, 59, 87, 37, 78 மற்றும் 57 ஆகும். ஆறு சிறுவர்களின் சராசரி மதிப்பெண்கள் :

- (1) 61
- (2) 69
- (3) 65
- (4) 71

Options :  
 212807118983 1  
 212807118984 2  
 212807118985 3  
 212807118986 4

Question Number : 262 Question Id : 21280719747 Question Type : MCQ Option Shuffling : No Is Question Mandatory : No Calculator : None  
 Response Time : N.A Think Time : N.A Minimum Instruction Time : 0  
 Correct Marks : 5 Wrong Marks : 1  
 Question Key Details :

Key	Value
Comprehension	MCQ

ఒక పరీక్షలో ఆరుగురు బాలల మార్కులు వరుసగా 48, 59, 87, 37, 78 మరియు 57. ఆరుగురు బాలల మార్కుల సగటు ఎంత ?

- (1) 61
- (2) 69
- (3) 65
- (4) 71

Options :  
 212807118983 1  
 212807118984 2  
 212807118985 3  
 212807118986 4

Question Number : 262 Question Id : 21280719747 Question Type : MCQ Option Shuffling : No Is Question Mandatory : No Calculator : None  
 Response Time : N.A Think Time : N.A Minimum Instruction Time : 0  
 Correct Marks : 5 Wrong Marks : 1  
 Question Key Details :

Key	Value
Comprehension	MCQ

ایک امتحان میں میں چھ (6) لڑکوں کے نمبرات 48 , 59 , 87 , 37 , 78 , and 57 ہیں بالترتیب، تو تمام چھ لڑکوں کے نمبرات کی اوسط کیا ہوگی :

- 61 (1)
- 69 (2)
- 65 (3)
- 71 (4)

Options :  
 212807118983 1  
 212807118984 2

112507113989:3  
112507113989:4

Question Number : 163 Question Id : 11280729745 Question Type : MCQ Option Shuffling : No Is Question Mandatory : No Calculator : None  
Response Time : N.A Think Time : N.A Minimum Instruction Time : 0

Correct Marks : 5 Wrong Marks : 1

Question Key Details :

Key	Value
Comprehension	MCQ

A man was allotted a work for 30 days on the condition that he would get ₹ 10 per day as wage if he reports for work and if he remains absent he would have to pay ₹ 2 as penalty for the day. Ultimately he got ₹ 216. For how many days he remained absent ?

- (1) 9
- (2) 7
- (3) 12
- (4) 11

Options :

112507113989:1  
112507113990:1  
112507113991:3  
112507113992:4

Question Number : 163 Question Id : 11280729745 Question Type : MCQ Option Shuffling : No Is Question Mandatory : No Calculator : None  
Response Time : N.A Think Time : N.A Minimum Instruction Time : 0

Correct Marks : 5 Wrong Marks : 1

Question Key Details :

Key	Value
Comprehension	MCQ

एक व्यक्ति को कोई कार्य 30 दिनों के लिए इस शर्त पर दिया गया था कि यदि वह कार्य के लिए उपस्थित रहता है तो उसे वेतन के रूप में प्रतिदिन के ₹ 10 प्राप्त होंगे और यदि वह किसी दिन अनुपस्थित रहता है तो उसे दण्ड के रूप में उस दिन के लिए ₹ 2 का भुगतान करना पड़ेगा। अंततः उसे ₹ 216 प्राप्त हुए। वह कितने दिन अनुपस्थित रहा था ?

- (1) 9
- (2) 7
- (3) 12
- (4) 11

Options :

112507113989:1  
112507113990:1  
112507113991:3  
112507113992:4

Question Number : 163 Question Id : 11280729745 Question Type : MCQ Option Shuffling : No Is Question Mandatory : No Calculator : None  
Response Time : N.A Think Time : N.A Minimum Instruction Time : 0

Correct Marks : 5 Wrong Marks : 1

Question Key Details :

Key	Value
Comprehension	MCQ

একজন মানুষকে 30 দিনকভাবে এটা কাম দিয়া হৈছে য'ত চৰ্ত আছে যে তেওঁ দিনত 10 টকাইক হাজিৰা পাব যদি সি কাম কৰিব আছে আৰু বিদিনা নাহে সি দৈনিক 2 টকাকৈ জাবিমা আদাৰা দিব লাগিব। অৱশেষত সি 216 টকা পালে। তেতিয়া হ'লে সি কিমান দিনৰ বাবে অনুপস্থিত আছিল ?

- (1) 9
- (2) 7
- (3) 12
- (4) 11

Options :

- 112807118989 1
- 112807118990 2
- 112807118991 3
- 112807118992 4

Question Number : 263 Question Id : 21280729748 Question Type : MCQ Option Shuffling : No Is Question Mandatory : No Calculator : None Response Time : N.A Think Time : N.A Minimum Instruction Time : 0

Correct Marks : 5 Wrong Marks : 1

Question Key Details :

Key	Value
Comprehension	MCQ

একজন শ্ৰমিককে 30 দিনেৰ কাজেৰ বৰাত দেওয়া হল এই শৰ্তে যে সে যদি কাজে যোগদান কৰে তাহলে সেইদিনেৰ জন্য 10 টকা পাৰিশ্ৰমিক দেওয়া হবে এবং যদি সে অনুপস্থিত থাকে তাহলে সেইদিনেৰ জন্য তাকে 2 টকা ক্ষতিপূৰণ দিতে হবে। শেষপৰ্যন্ত সে 216 টকা পেল, তাহলে সে কতদিন অনুপস্থিত ছিল ?

- (1) 9
- (2) 7
- (3) 12
- (4) 11

Options :

- 112807118989 1
- 112807118990 2
- 112807118991 3
- 112807118992 4

Question Number : 263 Question Id : 21280729748 Question Type : MCQ Option Shuffling : No Is Question Mandatory : No Calculator : None Response Time : N.A Think Time : N.A Minimum Instruction Time : 0

Correct Marks : 5 Wrong Marks : 1

Question Key Details :

Key	Value
Comprehension	MCQ

એક માણસને 30 દિવસો માટે કામ એ શરતે કામવધવામાં આવ્યું હતું કે તેને ગેરહાજરી 10 રૂપિયા વેતન તરીકે મળશે. એ તે કામ બંધ કરે અને તે ગેરહાજર રહે તો તેણે દિવસના દરેક તરીકે 2 રૂપિયા ચૂકવવા પડશે. આખરે તેને 216 રૂપિયા મળ્યા. તે કેટલા દિવસથી ગેરહાજર છે?

- (1) 9
- (2) 7
- (3) 12
- (4) 11

Options :

- 112807118989 1
- 112807118990 2
- 112807118991 3

212807118992\_4

Question Number : 263 Question Id : 21280719748 Question Type : MCQ Option Shuffling : No Is Question Mandatory : No Calculator : None  
Response Time : N.A Think Time : N.A Minimum Instruction Time : 0

Correct Marks : 5 Wrong Marks : 1

Question Key Details :

Key	Value
Comprehension	MCQ

ಒಬ್ಬ ವ್ಯಕ್ತಿಗೆ ಕೆಲಸಕ್ಕೆ ಹಾಜರಾದರೆ ವೇತನವಾಗಿ ಪ್ರತಿ ದಿನ ₹ 10 ಪಡೆಯುವ ಮತ್ತು ಅವನು ಕೆಲಸಕ್ಕೆ ಗೈರಾದರೆ ಪ್ರತಿ ದಿನ ₹ 2 ಪನಾಲ್ಕು ನಿರೀಕ್ಷಿಸಿಕೊಂಡು ನಿಬಂಧನೆಯೊಂದಿಗೆ 30 ದಿನಗಳಿಗೆ ಕೆಲಸವನ್ನು ಹಂಚಲಾಯಿತು. ಅಂತಿಮವಾಗಿ ಅವನು ₹ 216 ಪಡೆದುಕೊಂಡ. ಅವನು ಎಷ್ಟು ದಿನಗಳು ಗೈರು ಹಾಜರಾಗಿರುತ್ತಾನೆ ?

- (1) 9
- (2) 7
- (3) 12
- (4) 11

Options :

212807118989\_1

212807118990\_2

212807118991\_3

212807118992\_4

Question Number : 263 Question Id : 21280719748 Question Type : MCQ Option Shuffling : No Is Question Mandatory : No Calculator : None  
Response Time : N.A Think Time : N.A Minimum Instruction Time : 0

Correct Marks : 5 Wrong Marks : 1

Question Key Details :

Key	Value
Comprehension	MCQ

एका व्यक्तीला 30 दिवसांसाठी एका कामावर नेमण्यात आले. कामावर उपस्थित राहिल्यास एका दिवसाचे ₹ 10 देण्यात येतील व अनुपस्थित राहिल्यास ₹ 2 प्रतिदिन दंड भरावा लागेल अशी त्याला अट घालण्यात आली. अंतिमतः त्याला ₹ 216 मिळाले. तो कामगार किती दिवस अनुपस्थित राहिला ?

- (1) 9
- (2) 7
- (3) 12
- (4) 11

Options :

212807118989\_1

212807118990\_2

212807118991\_3

212807118992\_4

Question Number : 263 Question Id : 21280719748 Question Type : MCQ Option Shuffling : No Is Question Mandatory : No Calculator : None  
Response Time : N.A Think Time : N.A Minimum Instruction Time : 0

Correct Marks : 5 Wrong Marks : 1

Question Key Details :

Key	Value
Comprehension	MCQ

ജോലിക്ക് ഹാജരാകുന്ന ഓരോ ദിവസത്തിനും 10 രൂപ കൂലി നിരക്കിൽ, ഒരാൾക്ക് ഒരു ജോലി 30 ദിവസത്തേക്ക് നൽകി. ജോലിക്ക് ഹാജരാകാത്ത ഓരോ ദിവസത്തിനും അയാളിൽ നിന്നും 2 രൂപ പിഴയായി ഈടാക്കാനും തീരുമാനിച്ചു. അവസാനം അയാൾക്ക് 216 രൂപ കൂലിയായി ലഭിച്ചപ്പോൾ, അയാൾ എത്ര ദിവസമാണ് ജോലിക്ക് ഹാജരാകാതിരുന്നത് ?

- (1) 9
- (2) 7
- (3) 12
- (4) 11

Options :  
 212807118989 : 1  
 212807118990 : 2  
 212807118991 : 3  
 212807118992 : 4

Question Number : 263 Question Id : 21280719748 Question Type : MCQ Option Shuffling : No Is Question Mandatory : No Calculator : None  
 Response Time : N.A Think Time : N.A Minimum Instruction Time : 0  
 Correct Marks : 5 Wrong Marks : 1  
 Question Key Details :

Key	Value
Comprehension	MCQ

ബോറിംഗ് ബോയർ 30 ദിന പാക്ക് പാർട്ടി ഏറ്റെടുക്കുകയും ചെയ്തു. ഓരോ ദിവസവും ബോറിംഗ് ബോയർക്ക് 10 രൂപ കൂലി നൽകിയിരുന്നു. അയാൾക്ക് 216 രൂപ കൂലിയായി ലഭിച്ചപ്പോൾ, അയാൾ എത്ര ദിവസമാണ് ജോലിക്ക് ഹാജരാകാതിരുന്നത് ?

- (1) 9
- (2) 7
- (3) 12
- (4) 11

Options :  
 212807118989 : 1  
 212807118990 : 2  
 212807118991 : 3  
 212807118992 : 4

Question Number : 263 Question Id : 21280719748 Question Type : MCQ Option Shuffling : No Is Question Mandatory : No Calculator : None  
 Response Time : N.A Think Time : N.A Minimum Instruction Time : 0  
 Correct Marks : 5 Wrong Marks : 1  
 Question Key Details :

Key	Value
Comprehension	MCQ

ਇਕ ਵਿਅਕਤੀ ਨੂੰ 30 ਦਿਨਾਂ ਲਈ ਇਕ ਸ਼ਰਤ ਤੇ ਕੰਮ ਦਿੱਤਾ ਗਿਆ ਸੀ ਕਿ ਉਸ ਨੂੰ 10 ਰੁਪਏ ਦਿਹਾੜੀ ਮਿਲੇਗੀ। ਅਗਰ ਉਹ ਕੰਮ ਲਈ ਰਿਪੋਰਟ ਕਰਦਾ ਹੈ ਅਤੇ ਜੇਕਰ ਉਹ ਗੈਰਹਾਜ਼ਰ ਹੁੰਦਾ ਹੈ ਤਾਂ ਉਸਨੂੰ ਦਿਨ ਲਈ 2 ਰੁਪਏ ਜੁਰਮਾਨਾ ਭਰਨਾ ਪਵੇਗਾ। ਆਖਰਕਾਰ ਉਸਨੂੰ 216 ਰੁਪਏ ਮਿਲੇ। ਦੱਸੋ ਉਹ ਕਿੰਨੇ ਦਿਨ ਗੈਰਹਾਜ਼ਰ ਰਿਹਾ?

- (1) 9
- (2) 7
- (3) 12
- (4) 11

Options :  
 212807118989 : 1

212507118990.1  
212507118991.3  
212507118992.4

Question Number : 263 Question Id : 21250729748 Question Type : MCQ Option Shuffling : No Is Question Mandatory : No Calculator : None  
Response Time : N.A Think Time : N.A Minimum Instruction Time : 0

Correct Marks : 5 Wrong Marks : 1

Question Key Details :

Key	Value
Comprehension	MCQ

ஒரு நபர் வேலைக்கு வந்தால் ஒரு நாளைக்கு ₹ 10 ஊதியமாக கிடைக்கும் என்றும், அவர் பணிக்கு வராவிட்டால் அந்த நாளுக்கான அபராதமாக ₹ 2 செலுத்த வேண்டும் என்ற நிபந்தனையின் பேரில் ஒரு நபருக்கு 30 நாட்களுக்கு வேலை ஒதுக்கப்பட்டது. இறுதியில் அவருக்கு ₹ 216 கிடைத்தது. எத்தனை நாட்கள் அவர் வராமல் இருந்தார்?

- (1) 9
- (2) 7
- (3) 12
- (4) 11

Options :  
212507118989.1  
212507118990.1  
212507118991.3  
212507118992.4

Question Number : 263 Question Id : 21250729748 Question Type : MCQ Option Shuffling : No Is Question Mandatory : No Calculator : None  
Response Time : N.A Think Time : N.A Minimum Instruction Time : 0

Correct Marks : 5 Wrong Marks : 1

Question Key Details :

Key	Value
Comprehension	MCQ

மனிதர் ஹாஸ்டலில் ரூபாய் Rs. 10 வீதம் மலியும் ஹாஸ்டலில் யெடல ரூபாய் Rs. 2 மட்டுமே (Penalty) செலவு செய்து 30 நாட்கள் வசதி பெறும்படி அனுமதி பெற்றார். மொத்தம் தனது Rs. 216 வசதி அகலும்படி ரூபாய் ஹாஸ்டலில் ஹாஸ்டலில் காலேஜ் ?

- (1) 9
- (2) 7
- (3) 12
- (4) 11

Options :  
212507118989.1  
212507118990.1  
212507118991.3  
212507118992.4

Question Number : 263 Question Id : 21250729748 Question Type : MCQ Option Shuffling : No Is Question Mandatory : No Calculator : None  
Response Time : N.A Think Time : N.A Minimum Instruction Time : 0

Correct Marks : 5 Wrong Marks : 1

Question Key Details :

Key	Value
Comprehension	MCQ

ایک شخص کو 30 دن کے لیے اس شرط پر کام دیا گیا کہ وہ بلور مزدوری روزانہ 10 روپے پائے گا۔ اب اگر وہ کام کی شکایت کرتا ہے اور غیر حاضر رہتا ہے تو اسے بلور جرمانہ 2 روپے اس دن کے دینے ہوں گے ہر آخر اس نے 216 روپے، تو کتنے دنوں تک وہ غیر حاضر رہا؟

9 (1)

7 (2)

12 (3)

11 (4)

Options :

212907118989 1

212907118990 2

212907118991 3

212907118992 4

Question Number : 264 Question Id : 21280729749 Question Type : MCQ Option Shuffling : No Is Question Mandatory : No Calculator : None Response Time : N.A Think Time : N.A Minimum Instruction Time : 0

Correct Marks : 5 Wrong Marks : 1

Question Key Details :

Key	Value
Comprehension	MCQ

A ladder of length 30 m is leaning against a wall making an angle of  $30^\circ$  with the horizontal. Find the distance between the foot of the ladder and the wall.

(1)  $14\sqrt{3}$  m

(2)  $15\sqrt{3}$  m

(3)  $16\sqrt{3}$  m

(4)  $17\sqrt{3}$  m

Options :

212807118993 1

212807118994 2

212807118995 3

212807118996 4

Question Number : 264 Question Id : 21280729749 Question Type : MCQ Option Shuffling : No Is Question Mandatory : No Calculator : None Response Time : N.A Think Time : N.A Minimum Instruction Time : 0

Correct Marks : 5 Wrong Marks : 1

Question Key Details :

Key	Value
Comprehension	MCQ

30 मीटर लम्बी एक सीढ़ी भ्रमल के साथ  $30^\circ$  का कोण बनाते हुए दीवार के साथ खड़ी है। इस सीढ़ी के निचले सिरे और दीवार के बीच दूरी क्या है?

(1)  $14\sqrt{3}$  मीटर

(2)  $15\sqrt{3}$  मीटर

(3)  $16\sqrt{3}$  मीटर

(4)  $17\sqrt{3}$  मीटर

Options :

212807118993 1

212807118994 2

212807118995 3

212807118996 4

Question Number : 264 Question Id : 21280729749 Question Type : MCQ Option Shuffling : No Is Question Mandatory : No Calculator : None  
Response Time : N.A Think Time : N.A Minimum Instruction Time : 0

Correct Marks : 5 Wrong Marks : 1

Question Key Details :

Key	Value
Comprehension	MCQ

30 m সৈর্যালি এডালি জখলা বেনব ঙপবত হেলান সি অনুভূমিকার হৈছে 30° কোণ কৰি থাকে। জখলাৰ ভৰি আৰু বেনব মাজৰ দূৰত্ব কিমান হ'ব ?

(1)  $14\sqrt{3}$  m

(2)  $15\sqrt{3}$  m

(3)  $16\sqrt{3}$  m

(4)  $17\sqrt{3}$  m

Options :

212807118993 1

212807118994 2

212807118995 3

212807118996 4

Question Number : 264 Question Id : 21280729749 Question Type : MCQ Option Shuffling : No Is Question Mandatory : No Calculator : None  
Response Time : N.A Think Time : N.A Minimum Instruction Time : 0

Correct Marks : 5 Wrong Marks : 1

Question Key Details :

Key	Value
Comprehension	MCQ

30 m বিশিষ্ট একটি মই সমতলের সাথে 30° কোণ কৰে দেওয়ালের সাথে হেলানো আছে। মই-এৰ গোড়া থেকে দেওয়ালের দূৰত্ব নির্ণয় কৰো।

(1)  $14\sqrt{3}$  m

(2)  $15\sqrt{3}$  m

(3)  $16\sqrt{3}$  m

(4)  $17\sqrt{3}$  m

Options :

212807118993 1

212807118994 2

212807118995 3

212807118996 4

Question Number : 264 Question Id : 21280729749 Question Type : MCQ Option Shuffling : No Is Question Mandatory : No Calculator : None  
Response Time : N.A Think Time : N.A Minimum Instruction Time : 0

Correct Marks : 5 Wrong Marks : 1

Question Key Details :

Key	Value
Comprehension	MCQ



30 m લંબાઈની એક સીડી દિવાલ સામે ઝૂકી રહી છે જે આડી રહી ને  $30^\circ$  નો ખૂણો બનાવે છે. સીડીના પગ (છેડો) અને દિવાલ વચ્ચેનું અંતર શોધો.

- (1)  $14\sqrt{3}$  m
- (2)  $15\sqrt{3}$  m
- (3)  $16\sqrt{3}$  m
- (4)  $17\sqrt{3}$  m

Options :

212807118993 1

212807118994 2

212807118995 3

212807118996 4

Question Number : 264 Question Id : 21280719749 Question Type : MCQ Option Shuffling : No Is Question Mandatory : No Calculator : None Response Time : N.A Think Time : N.A Minimum Instruction Time : 0

Correct Marks : 5 Wrong Marks : 1

Question Key Details :

Key	Value
Comprehension	MCQ

30 cm લાંબાઈની એક સીડી દિવાલ સામે ઝૂકી રહી છે જે આડી રહી ને  $30^\circ$  નો ખૂણો બનાવે છે. સીડીના પગ (છેડો) અને દિવાલ વચ્ચેનું અંતર શોધો.

- (1)  $14\sqrt{3}$  m
- (2)  $15\sqrt{3}$  m
- (3)  $16\sqrt{3}$  m
- (4)  $17\sqrt{3}$  m

Options :

212807118993 1

212807118994 2

212807118995 3

212807118996 4

Question Number : 164 Question Id : 21280719749 Question Type : MCQ Option Shuffling : No Is Question Mandatory : No Calculator : None Response Time : N.A Think Time : N.A Minimum Instruction Time : 0

Correct Marks : 5 Wrong Marks : 1

Question Key Details :

Key	Value
Comprehension	MCQ

30 મી. લાંબાઈનો એક સીડી દિવાલ સામે ઝૂકી રહી છે જે આડી રહી ને  $30^\circ$  નો ખૂણો બનાવે છે. સીડીના પગ (છેડો) અને દિવાલ વચ્ચેનું અંતર શોધો.

- (1)  $14\sqrt{3}$  m
- (2)  $15\sqrt{3}$  m
- (3)  $16\sqrt{3}$  m
- (4)  $17\sqrt{3}$  m

Options :

212807118993 1

212807118994 1  
212807118995 3  
212807118996 4

Question Number : 264 Question Id : 21280729749 Question Type : MCQ Option Shuffling : No Is Question Mandatory : No Calculator : None  
Response Time : N.A Think Time : N.A Minimum Instruction Time : 0

Correct Marks : 5 Wrong Marks : 1

Question Key Details :

Key	Value
Comprehension	MCQ

30 മീറ്റർ നീളമുള്ള ഒരു ഏണി ഒരു ഭിത്തിയിൽ ചാരി വെച്ചപ്പോൾ, രൂപപ്പെടുന്ന കോണിന്റെ അളവ്  $30^\circ$  ആണെങ്കിൽ, ഏണിയുടെ കാലുകൾ ഭിത്തിയും തമ്മിലുള്ള ദൂരം എത്ര ?

- (1)  $14\sqrt{3}$  m
- (2)  $15\sqrt{3}$  m
- (3)  $16\sqrt{3}$  m
- (4)  $17\sqrt{3}$  m

Options :

212807118993 1  
212807118994 3  
212807118995 3  
212807118996 4

Question Number : 264 Question Id : 21280729749 Question Type : MCQ Option Shuffling : No Is Question Mandatory : No Calculator : None  
Response Time : N.A Think Time : N.A Minimum Instruction Time : 0

Correct Marks : 5 Wrong Marks : 1

Question Key Details :

Key	Value
Comprehension	MCQ

ഒരു ട്രൈബിളിന്റെ ഓരോ വശവും  $30^\circ$  കോണുള്ള ഒരു ത്രികോണാകുന്നു. ഈ ത്രികോണിന്റെ വശങ്ങളുടെ ദൂരം എത്ര ?

- (1)  $14\sqrt{3}$  മീറ്റർ
- (2)  $15\sqrt{3}$  മീറ്റർ
- (3)  $16\sqrt{3}$  മീറ്റർ
- (4)  $17\sqrt{3}$  മീറ്റർ

Options :

212807118993 1  
212807118994 3  
212807118995 3  
212807118996 4

Question Number : 264 Question Id : 21280729749 Question Type : MCQ Option Shuffling : No Is Question Mandatory : No Calculator : None  
Response Time : N.A Think Time : N.A Minimum Instruction Time : 0

Correct Marks : 5 Wrong Marks : 1

Question Key Details :

Key	Value
Comprehension	MCQ

30 ਮੀਟਰ ਲੰਬਾਈ ਦੀ ਇਕ ਪੇਂਡੀ ਇਕ ਕੰਧ ਦੇ ਨਾਲ ਝੁੱਕੀ ਹੋਈ ਹੈ ਜੋ ਕਿ ਲੈਟਵੇਂ ਦੇ ਨਾਲ ਇਕ ਕੋਣ  $30^\circ$  ਬਣਾਉਂਦਾ ਹੈ। ਪੇਂਡੀ ਦੇ ਪੈਰ ਤੇ ਕੰਧ ਵਿਚਕਾਰ ਦੂਰੀ ਲੱਭੋ ।

- (1)  $14\sqrt{3}$  ਮੀਟਰ
- (2)  $15\sqrt{3}$  ਮੀਟਰ
- (3)  $16\sqrt{3}$  ਮੀਟਰ
- (4)  $17\sqrt{3}$  ਮੀਟਰ

Options :

212807118993 1

212807118994 2

212807118995 3

212807118996 4

Question Number : 264 Question Id : 21280729749 Question Type : MCQ Option Shuffling : No Is Question Mandatory : No Calculator : None  
Response Time : N.A Think Time : N.A Minimum Instruction Time : 0

Correct Marks : 5 Wrong Marks : 1

Question Key Details :

Key	Value
Comprehension	MCQ

30 ਮੀਟਰ ਲੰਬਾਈ ਵਾਲੀ ਇੱਕ ਪੇਂਡੀ ਇੱਕ ਕੰਧ ਦੇ ਨਾਲ ਝੁੱਕੀ ਹੋਈ ਹੈ ਜੋ ਕਿ ਲੈਟਵੇਂ ਦੇ ਨਾਲ ਇੱਕ ਕੋਣ  $30^\circ$  ਬਣਾਉਂਦਾ ਹੈ। ਪੇਂਡੀ ਦੇ ਪੈਰ ਤੇ ਕੰਧ ਵਿਚਕਾਰ ਦੂਰੀ ਲੱਭੋ।

- (1)  $14\sqrt{3}$  m
- (2)  $15\sqrt{3}$  m
- (3)  $16\sqrt{3}$  m
- (4)  $17\sqrt{3}$  m

Options :

212807118993 1

212807118994 2

212807118995 3

212807118996 4

Question Number : 264 Question Id : 21280729749 Question Type : MCQ Option Shuffling : No Is Question Mandatory : No Calculator : None  
Response Time : N.A Think Time : N.A Minimum Instruction Time : 0

Correct Marks : 5 Wrong Marks : 1

Question Key Details :

Key	Value
Comprehension	MCQ

ఒక 30 m పొడవుగల నిచ్చిన క్షితిజానికి 30° కోణం చేస్తూ గోడపై వాలించి, ఆ నిచ్చిన పొడం మరియు గోడ మధ్య దూరం :

- (1)  $14\sqrt{3}$  m
- (2)  $15\sqrt{3}$  m
- (3)  $16\sqrt{3}$  m
- (4)  $17\sqrt{3}$  m

Options :

- 212807118993 1
- 212807118994 2
- 212807118995 3
- 212807118996 4

Question Number : 264 Question Id : 21280719749 Question Type : MCQ Option Shuffling : No Is Question Mandatory : No Calculator : None Response Time : N.A Think Time : N.A Minimum Instruction Time : 0

Correct Marks : 5 Wrong Marks : 1

Question Key Details :

Key	Value
Comprehension	MCQ

ایک 30 میٹر لمبی سیدھی افق میں 30° زاویہ بناتی ہوئی ایک دیوار کے مقابلے تک رہی ہے۔ تو دیوار اور سیدھی کے نچلے حصے کے بیچ کی دیوار تپائش :

- m  $14\sqrt{3}$  (1)
- m  $15\sqrt{3}$  (2)
- m  $16\sqrt{3}$  (3)
- m  $17\sqrt{3}$  (4)

Options :

- 212807118993 1
- 212807118994 2
- 212807118995 3
- 212807118996 4

Question Number : 165 Question Id : 21280719750 Question Type : MCQ Option Shuffling : No Is Question Mandatory : No Calculator : None Response Time : N.A Think Time : N.A Minimum Instruction Time : 0

Correct Marks : 5 Wrong Marks : 1

Question Key Details :

Key	Value
Comprehension	MCQ

A 10 m long, 4 m high and 24 cm thick wall is to be built using bricks having dimensions 25 cm × 12 cm × 8 cm. Number of bricks required is :

- (1) 4160
- (2) 4000
- (3) 4200
- (4) 4170

Options :

- 212807118997 1
- 212807118998 2
- 212807118999 3

212507119000.4

Question Number : 265 Question Id : 21250729750 Question Type : MCQ Option Shuffling : No Is Question Mandatory : No Calculator : None  
Response Time : N.A Think Time : N.A Minimum Instruction Time : 0

Correct Marks : 5 Wrong Marks : 1

Question Key Details :

Key	Value
Comprehension	MCQ

एक 10 मीटर लंबी, 4 मीटर ऊंची और 24 सेंमी मोटी दीवार बनाई जानी है जिसके लिए 25 सेंमी  $\times$  12 सेंमी  $\times$  8 सेंमी विमाओं वाली ईंट प्रयोग की जानी हैं। इसके लिए कितनी ईंटों की आवश्यकता होगी ?

- (1) 4160
- (2) 4000
- (3) 4200
- (4) 4170

Options :

212507118997.1

212507118998.1

212507118999.3

212507119000.4

Question Number : 265 Question Id : 21250729750 Question Type : MCQ Option Shuffling : No Is Question Mandatory : No Calculator : None  
Response Time : N.A Think Time : N.A Minimum Instruction Time : 0

Correct Marks : 5 Wrong Marks : 1

Question Key Details :

Key	Value
Comprehension	MCQ

25 cm  $\times$  12 cm  $\times$  8 cm জোখের ইটা ব্যবহার করি এখন 10 m দীর্ঘ, 4 m উচ্চতার আক 24 cm ডাঠ এখন কেল বনোবা হৈছে। কিমানটা ইটা ব্যবহার হৈছে কোবা ?

- (1) 4160
- (2) 4000
- (3) 4200
- (4) 4170

Options :

212507118997.1

212507118998.1

212507118999.3

212507119000.4

Question Number : 265 Question Id : 21250729750 Question Type : MCQ Option Shuffling : No Is Question Mandatory : No Calculator : None  
Response Time : N.A Think Time : N.A Minimum Instruction Time : 0

Correct Marks : 5 Wrong Marks : 1

Question Key Details :

Key	Value
Comprehension	MCQ

25 cm  $\times$  12 cm  $\times$  8 cm মাত্রা বিশিষ্ট ইট দিয়ে একটি 10 m দীর্ঘ, 4 m উচ্চতা এবং 24 cm পুরু দেওয়াল তৈরি করা হবে। প্রয়োজনীয় ইটের সংখ্যা হল—

- (1) 4160
- (2) 4000
- (3) 4200
- (4) 4170

Options :

212807118997 1

212807118998 2

212807118999 3

212807119000 4

Question Number : 265 Question Id : 21280729750 Question Type : MCQ Option Shuffling : No Is Question Mandatory : No Calculator : None  
Response Time : N.A Think Time : N.A Minimum Instruction Time : 0

Correct Marks : 5 Wrong Marks : 1

Question Key Details :

Key	Value
Comprehension	MCQ

25 cm × 12 cm × 8 cm परिमाण घनपती कडे नो डिपयोग करीने 10 m लांबी, 4 m रीची अने 24 cm बडी दिवाल बांधवामां  
आपी. बडरी कडेनी संख्या शोधो.

(1) 4160

(2) 4167

(3) 4200

(4) 4170

Options :

212807118997 1

212807118998 2

212807118999 3

212807119000 4

Question Number : 265 Question Id : 21280729750 Question Type : MCQ Option Shuffling : No Is Question Mandatory : No Calculator : None  
Response Time : N.A Think Time : N.A Minimum Instruction Time : 0

Correct Marks : 5 Wrong Marks : 1

Question Key Details :

Key	Value
Comprehension	MCQ

10 मीटर लांबी, 4 मी मरुतु 24 सेमी बडरी गिरेलेंयसु 24 सेमी × 12 सेमी × 8 सेमी म्हुणुतु अडुगिणसु  
बडरी निमोसवेरुणु. अडुगिणसु संख्या :

(1) 4160

(2) 4000

(3) 4200

(4) 4170

Options :

212807118997 1

212807118998 2

212807118999 3

212807119000 4

Question Number : 265 Question Id : 21280729750 Question Type : MCQ Option Shuffling : No Is Question Mandatory : No Calculator : None  
Response Time : N.A Think Time : N.A Minimum Instruction Time : 0

Correct Marks : 5 Wrong Marks : 1

Question Key Details :

Key	Value
Comprehension	MCQ

25 सेमी × 12 सेमी × 8 सेमी परिमाण असणाऱ्या विटेचा वापर करून एक 10 मी. लांब, 4 मी. डंच आणि 24 सेमी जाडीची भिंत उभारण्याची आहे. ही भिंत उभारण्यास किती विटा लागतील ?

- (1) 4160  
(2) 4000  
(3) 4200  
(4) 4170

Options :

- 212807118997 1  
212807118998 2  
212807118999 3  
212807119000 4

Question Number : 265 Question Id : 21280719750 Question Type : MCQ Option Shuffling : No Is Question Mandatory : No Calculator : None  
Response Time : N.A Think Time : N.A Minimum Instruction Time : 0  
Correct Marks : 5 Wrong Marks : 1

Question Key Details :

Key	Value
Comprehension	MCQ

25 cm × 12 cm × 8 cm आकाराच्या विटा कडून एक भिंत 10 मी. लांब, 4 मी. डंच आणि 24 सेमी जाडीची उभारण्याची आहे. ही भिंत उभारण्यास किती विटा लागतील ?

- (1) 4160  
(2) 4000  
(3) 4200  
(4) 4170

Options :

- 212807118997 1  
212807118998 2  
212807118999 3  
212807119000 4

Question Number : 265 Question Id : 21280719750 Question Type : MCQ Option Shuffling : No Is Question Mandatory : No Calculator : None  
Response Time : N.A Think Time : N.A Minimum Instruction Time : 0  
Correct Marks : 5 Wrong Marks : 1

Question Key Details :

Key	Value
Comprehension	MCQ

आकाराच्या 25 सेमी. × 12 सेमी. × 8 सेमी. विटा कडून एक भिंत 10 मी. लांब, 4 मी. डंच आणि 24 सेमी जाडीची उभारण्याची आहे. ही भिंत उभारण्यास किती विटा लागतील ?

- (1) 4160  
(2) 4000  
(3) 4200  
(4) 4170

Options :

- 212807118997 1  
212807118998 2  
212807118999 3  
212807119000 4

Question Number : 265 Question Id : 21280719750 Question Type : MCQ Option Shuffling : No Is Question Mandatory : No Calculator : None  
Response Time : N.A Think Time : N.A Minimum Instruction Time : 0





212807118997 1  
212807118998 2  
212807118999 3  
212807119000 4

Question Number : 265 Question Id : 21280719750 Question Type : MCQ Option Shuffling : No Is Question Mandatory : No Calculator : None  
Response Time : N.A Think Time : N.A Minimum Instruction Time : 0

Correct Marks : 5 Wrong Marks : 1

Question Key Details :

Key	Value
Comprehension	MCQ

ایک 10 سینٹر لمبی، 4 سینٹر اونچی اور 24 سینٹی میٹر موٹی دیوار ان اینٹوں کے استعمال سے بنی ہے جن کی جہتیں  $25\text{ cm} \times 12\text{ cm} \times 8\text{ cm}$  ہیں۔ تو درکار اینٹوں کی تعداد بتائیں۔

- (1) 4160  
(2) 4000  
(3) 4200  
(4) 4170

Options :

212807118997 1  
212807118998 2  
212807118999 3  
212807119000 4

Question Number : 266 Question Id : 21280719751 Question Type : MCQ Option Shuffling : No Is Question Mandatory : No Calculator : None  
Response Time : N.A Think Time : N.A Minimum Instruction Time : 0

Correct Marks : 5 Wrong Marks : 1

Question Key Details :

Key	Value
Comprehension	MCQ

Amit can do a task in 10 days and Bhanu can do the same task in 40 days. In how many days will the task be completed if they work together ?

- (1) 7  
(2) 8  
(3) 10  
(4) 12

Options :

212807119001 1  
212807119002 2  
212807119003 3  
212807119004 4

Question Number : 266 Question Id : 21280719751 Question Type : MCQ Option Shuffling : No Is Question Mandatory : No Calculator : None  
Response Time : N.A Think Time : N.A Minimum Instruction Time : 0

Correct Marks : 5 Wrong Marks : 1

Question Key Details :

Key	Value
Comprehension	MCQ

अमित एक कार्य को 10 दिन में कर सकता है और भानू इसी कार्य को 40 दिन में कर सकता है। यदि ये दोनों मिलकर यह कार्य करें तो उसे कितने दिनों में पूरा कर लेंगे ?

- (1) 7
- (2) 8
- (3) 10
- (4) 12

Options :

- 212807119001 1
- 212807119002 2
- 212807119003 3
- 212807119004 4

Question Number : 266 Question Id : 21280719751 Question Type : MCQ Option Shuffling : No Is Question Mandatory : No Calculator : None  
Response Time : N.A Think Time : N.A Minimum Instruction Time : 0  
Correct Marks : 5 Wrong Marks : 1

Question Key Details :

Key	Value
Comprehension	MCQ

अमिते एउटा काम 10 दिनत आरु भानुवे सेई एकेई कामठो 40 दिनत करिब पावे । सिईते एकेनगे काम करिबे कामठो किमान दिनत सम्पन्न हबै ?

- (1) 7
- (2) 8
- (3) 10
- (4) 12

Options :

- 212807119001 1
- 212807119002 2
- 212807119003 3
- 212807119004 4

Question Number : 266 Question Id : 21280719751 Question Type : MCQ Option Shuffling : No Is Question Mandatory : No Calculator : None  
Response Time : N.A Think Time : N.A Minimum Instruction Time : 0  
Correct Marks : 5 Wrong Marks : 1

Question Key Details :

Key	Value
Comprehension	MCQ

अमित एकटा काज 10 दिने एवम् भानु सेई काज 40 दिने करबै पावे । यदि तरा एकरे काज करे ताहले कत दिने काजटि शेष हबै ?

- (1) 7
- (2) 8
- (3) 10
- (4) 12

Options :

- 212807119001 1
- 212807119002 2
- 212807119003 3
- 212807119004 4

Question Number : 266 Question Id : 21280719751 Question Type : MCQ Option Shuffling : No Is Question Mandatory : No Calculator : None  
Response Time : N.A Think Time : N.A Minimum Instruction Time : 0

Correct Marks : 5 Wrong Marks : 1

Question Key Details :

Key	Value
Comprehension	MCQ

અમિત 10 દિવસોમાં કાર્ય (ટાસ્ક) પૂરું કરી શકે છે અને ભાનુ તે જ કાર્ય (ટાસ્ક) 40 દિવસોમાં કરી શકે છે બંને લેઓ સાથે મળીને કામ કરશે તો તેઓ કેટલા દિવસોમાં કાર્ય કરી શકશે?

- (1) 7
- (2) 8
- (3) 10
- (4) 12

Options :

212907119001 3  
212907119002 3  
212907119003 3  
212907119004 4

Question Number : 266 Question Id : 21280729751 Question Type : MCQ Option Shuffling : No Is Question Mandatory : No Calculator : None  
Response Time : N.A Think Time : N.A Minimum Instruction Time : 0

Correct Marks : 5 Wrong Marks : 1

Question Key Details :

Key	Value
Comprehension	MCQ

અમિતના 80મું કાર્યવાહી 10 દિવસમાં પૂરું કરી શકે છે અને ભાનુ તે જ કાર્યવાહી 40 દિવસમાં પૂરું કરી શકે છે બંને લેઓ સાથે મળીને કામ કરશે તો તેઓ કેટલા દિવસોમાં કાર્ય કરી શકશે?

- (1) 7
- (2) 8
- (3) 10
- (4) 12

Options :

212907119001 3  
212907119002 3  
212907119003 3  
212907119004 4

Question Number : 266 Question Id : 21280729751 Question Type : MCQ Option Shuffling : No Is Question Mandatory : No Calculator : None  
Response Time : N.A Think Time : N.A Minimum Instruction Time : 0

Correct Marks : 5 Wrong Marks : 1

Question Key Details :

Key	Value
Comprehension	MCQ

एक काम करण्यास अमितला 10 दिवस लागतात. तर तेच काम करण्यास भानुला 40 दिवस लागतात. जर दोघांनी एकत्र काम केले, तर ते काम किती दिवसात पूर्ण होईल ?

- (1) 7
- (2) 8
- (3) 10
- (4) 12

Options :

212907119001 3  
212907119002 3  
212907119003 3  
212907119004 4



Options :

212807119001 : 1

212807119002 : 2

212807119003 : 3

212807119004 : 4

Question Number : 165 Question Id : 21280729751 Question Type : MCQ Option Shuffling : No Is Question Mandatory : No Calculator : None  
Response Time : N.A Think Time : N.A Minimum Instruction Time : 0

Correct Marks : 5 Wrong Marks : 1

Question Key Details :

Key	Value
Comprehension	MCQ

அமித ஒரு வேலையை 10 நாட்களில் செய்ய முடியும் , பானு அதே வேலையை 40 நாட்களில் செய்ய முடியும் , அவர்கள் ஒன்றிணைந்து செயல்பட்டால் எத்தனை நாட்களில் பணி நிறைவடையும்?

(1) 7

(2) 8

(3) 10

(4) 12

Options :

212807119001 : 1

212807119002 : 2

212807119003 : 3

212807119004 : 4

Question Number : 166 Question Id : 21280729751 Question Type : MCQ Option Shuffling : No Is Question Mandatory : No Calculator : None  
Response Time : N.A Think Time : N.A Minimum Instruction Time : 0

Correct Marks : 5 Wrong Marks : 1

Question Key Details :

Key	Value
Comprehension	MCQ

அமெல் 6.8 பணியை 10 ரోல்களில் முடியும் போது அடே 6.8 பணியை 40 ரோல்களில் செய்தார், வாரம் ஐந்து கமிசன் 6.8 ரோல்களில்  
அ பணியை முடிவு செய்தார் ?

(1) 7

(2) 8

(3) 10

(4) 12

Options :

212807119001 : 1

212807119002 : 2

212807119003 : 3

212807119004 : 4

Question Number : 166 Question Id : 21280729751 Question Type : MCQ Option Shuffling : No Is Question Mandatory : No Calculator : None  
Response Time : N.A Think Time : N.A Minimum Instruction Time : 0

Correct Marks : 5 Wrong Marks : 1

Question Key Details :

Key	Value
Comprehension	MCQ

امیت ایک کام کو 10 دن میں کر سکتا ہے اور یحنا نو بالکل وہی کام 40 دن میں کر سکتا ہے۔ اگر وہ دونوں مل کر کام کریں تو کتنے دنوں میں کام مکمل ہوگا ؟

7 (1)

8 (2)

10 (3)

12 (4)

Options :

112807119001 1

112807119002 2

112807119003 3

112807119004 4

Question Number : 267 Question Id : 21280729752 Question Type : MCQ Option Shuffling : No Is Question Mandatory : No Calculator : None  
Response Time : N.A Think Time : N.A Minimum Instruction Time : 0

Correct Marks : 5 Wrong Marks : 1

Question Key Details :

Key	Value
Comprehension	MCQ

A student goes to school from his residence at a speed of  $2\frac{1}{2}$  km/h and reaches school 6 minutes late. If he travels at a speed of 3 km/h, he reaches 10 minutes before time. What is the distance of his school from his residence ?

(1) 4 km

(2)  $3\frac{1}{4}$  km

(3) 1 km

(4)  $3\frac{1}{2}$  km

Options :

112807119001 1

112807119002 2

112807119003 3

112807119004 4

Question Number : 267 Question Id : 21280729752 Question Type : MCQ Option Shuffling : No Is Question Mandatory : No Calculator : None  
Response Time : N.A Think Time : N.A Minimum Instruction Time : 0

Correct Marks : 5 Wrong Marks : 1

Question Key Details :

Key	Value
Comprehension	MCQ

एक विद्यार्थी अपने घर से  $2\frac{1}{2}$  किमी/घंटा की गति से विद्यालय जाता है और विद्यालय 6 मिनट देर से पहुंचता है। यदि वह 3 किमी/घंटा की गति से जाए तो समय से 10 मिनट पहले पहुंचता है। उसके घर से विद्यालय कितना दूर है ?

- (1) 4 किमी  
(2)  $3\frac{1}{4}$  किमी  
(3) 1 किमी  
(4)  $3\frac{1}{2}$  किमी

Options :

212807119005 1

212807119006 2

212807119007 3

212807119008 4

Question Number : 167 Question Id : 21280719752 Question Type : MCQ Option Shuffling : No Is Question Mandatory : No Calculator : None  
Response Time : N.A Think Time : N.A Minimum Instruction Time : 0

Correct Marks : 5 Wrong Marks : 1

Question Key Details :

Key	Value
Comprehension	MCQ

এজন ছাত্ৰই ঘৰৰ পৰা  $2\frac{1}{2}$  km/h বেগত বিদ্যালয়লৈ গৈ পায় আৰু লৈ পাওঁতে 6 মিনিট বেৰি হয়। যদি সি 3 km/h বেগত যায় তেন্তে সি 10 মিনিট আগতে গৈ পায়। তেওঁৰ ঘৰৰ পৰা বিদ্যালয়ৰ দূৰত্ব কিমান ?

- (1) 4 km  
(2)  $3\frac{1}{4}$  km  
(3) 1 km  
(4)  $3\frac{1}{2}$  km

Options :

212807119005 1

212807119006 2

212807119007 3

212807119008 4

Question Number : 167 Question Id : 21280719752 Question Type : MCQ Option Shuffling : No Is Question Mandatory : No Calculator : None  
Response Time : N.A Think Time : N.A Minimum Instruction Time : 0

Correct Marks : 5 Wrong Marks : 1

Question Key Details :

Key	Value
Comprehension	MCQ

এক পড়ুয়া তার বাড়ি থেকে  $2\frac{1}{2}$  km/h গতিতে বিদ্যালয়ে যায় এবং 6 মিনিট দেরিতে বিদ্যালয়ে পৌঁছায়। যদি সে 3 km/h গতিতে যায় তাহলে সে 10 মিনিট আগে পৌঁছাবে। তার বাড়ি থেকে বিদ্যালয়ের দূরত্ব কত ?

- (1) 4 km  
(2)  $3\frac{1}{4}$  km  
(3) 1 km  
(4)  $3\frac{1}{2}$  km

Options :

212807119005 3

212807119006 3

212807119007 3

212807119008 4

Question Number : 267 Question Id : 21280729752 Question Type : MCQ Option Shuffling : No Is Question Mandatory : No Calculator : None

Response Time : N.A Think Time : N.A Minimum Instruction Time : 0

Correct Marks : 5 Wrong Marks : 1

Question Key Details :

Key	Value
Comprehension	MCQ

$2\frac{1}{2}$  km/h ની ઝડપે એક વિદ્યાર્થી પોતાના ઘર થી શાળાએ જાય છે અને શાળાએ 6 મિનિટ મોડો પહોંચે છે. જો તે 3 km/h ની ઝડપે સડર કરે તો તે 10 મિનિટ વહેલો પહોંચે છે. તો તેના ઘરથી શાળાનું અંતર શું છે?

- (1) 4 km  
(2)  $3\frac{1}{4}$  km  
(3) 1 km  
(4)  $3\frac{1}{2}$  km

Options :

212807119005 3

212807119006 3

212807119007 3

212807119008 4

Question Number : 267 Question Id : 21280729752 Question Type : MCQ Option Shuffling : No Is Question Mandatory : No Calculator : None

Response Time : N.A Think Time : N.A Minimum Instruction Time : 0

Correct Marks : 5 Wrong Marks : 1

Question Key Details :

Key	Value
Comprehension	MCQ



ಒಬ್ಬ ವಿದ್ಯಾರ್ಥಿಯು ತನ್ನ ಮನೆಯಿಂದ  $2\frac{1}{2}$  km/h ವೇಗದಲ್ಲಿ ಶಾಲೆಗೆ ಹೋಗುವನು ಮತ್ತು ಶಾಲೆಯನ್ನು 6 ನಿಮಿಷಗಳು ತಡವಾಗಿ ತಲುಪುತ್ತಾನೆ. ಅವನು 3 km/h ವೇಗದಲ್ಲಿ ಕ್ರಮಿಸಿದರೆ ಸುಲಭವಾಗಿ 10 ನಿಮಿಷದಲ್ಲಿ ತಲುಪಬಹುದು. ಹಾಗಿದ್ದರೆ ಅವನ ಶಾಲೆಯು ಅವನ ಮನೆಯಿಂದ ಎಷ್ಟು ದೂರದಲ್ಲಿದೆ ?

- (1) 4 km  
 (2)  $3\frac{1}{4}$  km  
 (3) 1 km  
 (4)  $3\frac{1}{2}$  km

Options :

212807119005 1  
 212807119006 2  
 212807119007 3  
 212807119008 4

Question Number : 267 Question Id : 21280719752 Question Type : MCQ Option Shuffling : No Is Question Mandatory : No Calculator : None

Response Time : N.A Think Time : N.A Minimum Instruction Time : 0

Correct Marks : 5 Wrong Marks : 1

Question Key Details :

Key	Value
Comprehension	MCQ

एका विद्यार्थ्याला  $2\frac{1}{2}$  किमी/तास इतक्या वेगाने आपल्या घरापासून शाळेत जाण्यास 6 मिनीटे ढशीर होती. जर त्याने 3 किमी/तास इतक्या वेगाने प्रवास केला तर तो वेळेच्या 10 मिनीटे आधी शाळेत पोहोचतो. त्याच्या घरापासून शाळा किती अंतरावर आहे ?

- (1) 4 किमी  
 (2)  $3\frac{1}{4}$  किमी  
 (3) 1 किमी  
 (4)  $3\frac{1}{2}$  किमी

Options :

212807119005 1  
 212807119006 2  
 212807119007 3  
 212807119008 4

Question Number : 267 Question Id : 21280719752 Question Type : MCQ Option Shuffling : No Is Question Mandatory : No Calculator : None

Response Time : N.A Think Time : N.A Minimum Instruction Time : 0

Correct Marks : 5 Wrong Marks : 1

Question Key Details :

Key	Value
Comprehension	MCQ

ഒരു വിദ്യാർത്ഥി അവന്റെ വീട്ടിൽ നിന്നും സ്കൂളിലേക്ക് മണിക്കൂറിൽ  $2\frac{1}{2}$  കി. മീ വേഗതയിൽ പോയാൽ 6 മിനിറ്റ് വൈകി സ്കൂളിൽ എത്തും. അവൻ മണിക്കൂറിൽ 3 കി. മീ. വേഗതയിൽ പോയാൽ 10 മിനിറ്റ് നേരമത്ത സ്കൂളിൽ എത്തുമെങ്കിൽ, സ്കൂളും വീടും തമ്മിലുള്ള ദൂരം എത്ര ?

- (1) 4 km
- (2)  $3\frac{1}{4}$  km
- (3) 1 km
- (4)  $3\frac{1}{2}$  km

Options :

- 212807119003 1
- 212807119004 1
- 212807119005 3
- 212807119006 4

Question Number : 257 Question Id : 21280729752 Question Type : MCQ Option Shuffling : No Is Question Mandatory : No Calculator : None Response Time : N.A Think Time : N.A Minimum Instruction Time : 0 Correct Marks : 5 Wrong Marks : 1

Question Key Details :

Key	Value
Comprehension	MCQ

ബാലിഷ് ബാഗ് ൭ മൂർ തിയാമെടു  $2\frac{1}{2}$  രൂപ./വഴി രേഖക്കു മിവാ രു/൭ 6 നിറീര തിയാമെ വെച്ചിനു । മേ മറ്റു 3 രൂപ./വഴി രേഖക്കു മിവാ, മേ 1൦ നിറീര മൂർമൂ വെച്ചു । ൭ മൂർ ൭'൭ തിയാമെനു മൂ൭൭ മേനു ?

- (1) 4 രൂപ.
- (2)  $3\frac{1}{4}$  രൂപ.
- (3) 1 രൂപ.
- (4)  $3\frac{1}{2}$  രൂപ.

Options :

- 212807119003 1
- 212807119004 1
- 212807119005 3
- 212807119006 4

Question Number : 267 Question Id : 21280729752 Question Type : MCQ Option Shuffling : No Is Question Mandatory : No Calculator : None Response Time : N.A Think Time : N.A Minimum Instruction Time : 0 Correct Marks : 5 Wrong Marks : 1

Question Key Details :

Key	Value
Comprehension	MCQ

ਇਕ ਬੱਚਾ ਆਪਣੇ ਘਰ ਤੋਂ ਸਕੂਲ  $2\frac{1}{2}$  ਕਿਲੋਮੀਟਰ/ਪ੍ਰਤੀ ਘੰਟਾ ਦੀ ਰਫਤਾਰ ਨਾਲ ਜਾਂਦਾ ਹੈ ਅਤੇ 6 ਮਿੰਟ ਲੇਟ ਪਹੁੰਚਦਾ ਹੈ ਅਗਰ ਉਹ 3 ਕਿਲੋਮੀਟਰ/ਪ੍ਰਤੀ ਘੰਟਾ ਦੀ ਰਫਤਾਰ ਨਾਲ ਸਫਰ ਤੈਅ ਕਰੇ ਤਾਂ ਉਹ 10 ਮਿੰਟ ਸੌਖੇ ਤਰੀਕੇ ਨਾਲ ਜਾਏਗਾ। ਦੱਸੋ ਉਸ ਦੇ ਘਰ ਤੋਂ ਸਕੂਲ ਦੀ ਦੂਰੀ ਕਿੰਨੀ ਹੈ :

- (1) 4 ਕਿਲੋਮੀਟਰ
- (2)  $3\frac{1}{4}$  ਕਿਲੋਮੀਟਰ
- (3) 1 ਕਿਲੋਮੀਟਰ
- (4)  $3\frac{1}{2}$  ਕਿਲੋਮੀਟਰ

Options :

212807119005 1

212807119006 2

212807119007 3

212807119008 4

Question Number : 267 Question Id : 21280719752 Question Type : MCQ Option Shuffling : No Is Question Mandatory : No Calculator : None Response Time : N.A Think Time : N.A Minimum Instruction Time : 0

Correct Marks : 5 Wrong Marks : 1

Question Key Details :

Key	Value
Comprehension	MCQ

ਓਰੁ ਮਾਠਾਨਵਠ ਠਨਾਤੁ ਵੀਂਡੀ ਲਿਰੁਠਨੁ ਮਠਨੀਕੁ ਕੀ .ਮੀ ਵੇਕਠਠੀਲ ਪਲੰਗੀਕੁਕੁਸ਼ ਸੇਠਨੁ  $2\frac{1}{2}$  6 ਨਿਮੀਡਠਕਲ ਠਾਮਠਮਾਕ ਪਲੰਗੀਠਠਠ ਅਠਾਡ ਕੀਰਾਠਨ . ਮਠਨੀਕੁ 3 ਕੀ.ਮੀ. ਵੇਕਠਠੀਲ ਪਠਠਨੀਠਠਾਠ , 10 ਨਿਮੀਡਠਕਲ ਮੁਠਨਨਠਾਕਵੇ ਵਠਨੁ ਵੀਡੁਵਾਰ. ਅਵਰਠੁ ਵੀਂਡੀ ਲਿਰੁਠਨੁ ਅਵਰਠੁ ਪਲੰਗੀਠਠੀਨ ਠੁਾਰਮੁ ਠਵਵਠਠਵ?

- (1) 4 ਕੀ.ਮੀ
- (2)  $3\frac{1}{4}$  ਕੀ.ਮੀ
- (3) 1 ਕੀ.ਮੀ
- (4)  $3\frac{1}{2}$  ਕੀ.ਮੀ

Options :

212807119005 1

212807119006 2

212807119007 3

212807119008 4

Question Number : 267 Question Id : 21280719752 Question Type : MCQ Option Shuffling : No Is Question Mandatory : No Calculator : None Response Time : N.A Think Time : N.A Minimum Instruction Time : 0

Correct Marks : 5 Wrong Marks : 1

Question Key Details :

Key	Value
Comprehension	MCQ

ఒక విద్యార్థి తన గృహం నుండి పాఠశాలకి  $2\frac{1}{2}$  km/h వేగంతో వెళ్తాడు మరియు అతను పాఠశాలకి 6 నిమిషాలు అలస్యంగా చేరుకున్నాడు. తను 3 km/h వేగంతో వెళ్తే 10 నిమిషాలు ముందు చేరుతాడు. తన గృహం నుండి పాఠశాల దూరం ఎంత ?

- (1) 4 km  
 (2)  $3\frac{1}{4}$  km  
 (3) 1 km  
 (4)  $3\frac{1}{2}$  km

Options :

- 212507119005 1  
 212507119006 2  
 212507119007 3  
 212507119008 4

Question Number : 167 Question Id : 21250719752 Question Type : MCQ Option Shuffling : No Is Question Mandatory : No Calculator : None  
 Response Time : N.A Think Time : N.A Minimum Instruction Time : 0

Correct Marks : 5 Wrong Marks : 1

Question Key Details :

Key	Value
Comprehension	MCQ

ایک طالب علم اپنے گھر سے  $2\frac{1}{2}$  کلومیٹر فی گھنٹہ کی رفتار سے اسکول جاتا ہے۔ اور 6 منٹ کی دوری سے اسکول پہنچتا ہے۔ اگر وہ 3 کلومیٹر فی گھنٹہ کی رفتار سے سفر کرے تو وہ وقت مقررہ سے 10 منٹ پہلے پہنچتا ہے۔ تو اس کے گھر سے اسکول کی دوری کتنی ہے ؟

- km 4 (1)  
 km  $3\frac{1}{4}$  (2)  
 km 1 (3)  
 km  $3\frac{1}{2}$  (4)

Options :

- 212507119005 1  
 212507119006 2  
 212507119007 3  
 212507119008 4

Question Number : 168 Question Id : 21250719753 Question Type : MCQ Option Shuffling : No Is Question Mandatory : No Calculator : None  
 Response Time : N.A Think Time : N.A Minimum Instruction Time : 0

Correct Marks : 5 Wrong Marks : 1

Question Key Details :

Key	Value
Comprehension	MCQ

Simplify  $(0.\bar{1})^2 \times \{1 - 9 \times (0.1\bar{6})^2\}$

(1)  $\frac{-1}{162}$

(2)  $\frac{1}{108}$

(3)  $\frac{7696}{10^6}$

(4)  $\frac{1}{106}$

Options :

212807119009 : 1

212807119010 : 2

212807119011 : 3

212807119012 : 4

Question Number : 268 Question Id : 21280719753 Question Type : MCQ Option Shuffling : No Is Question Mandatory : No Calculator : None  
Response Time : N.A Think Time : N.A Minimum Instruction Time : 0

Correct Marks : 5 Wrong Marks : 1

Question Key Details :

Key	Value
Comprehension	MCQ

$(0.\bar{1})^2 \times \{1 - 9 \times (0.1\bar{6})^2\}$  को सरल कीजिए।

(1)  $\frac{-1}{162}$

(2)  $\frac{1}{108}$

(3)  $\frac{7696}{10^6}$

(4)  $\frac{1}{106}$

Options :

212807119009 : 1

212807119010 : 2

212807119011 : 3

212807119012 : 4

Question Number : 268 Question Id : 21280719753 Question Type : MCQ Option Shuffling : No Is Question Mandatory : No Calculator : None  
Response Time : N.A Think Time : N.A Minimum Instruction Time : 0

Correct Marks : 5 Wrong Marks : 1

Question Key Details :

Key	Value
Comprehension	MCQ

$$\text{সরল করা : } (0.\bar{1})^2 \times \{1 - 9 \times (0.\bar{16})^2\}$$

(1)  $\frac{-1}{162}$

(2)  $\frac{1}{108}$

(3)  $\frac{7696}{10^6}$

(4)  $\frac{1}{106}$

Options :

212807119009 : 1

212807119010 : 2

212807119011 : 3

212807119012 : 4

Question Number : 268 Question Id : 21280719753 Question Type : MCQ Option Shuffling : No Is Question Mandatory : No Calculator : None  
Response Time : N.A Think Time : N.A Minimum Instruction Time : 0

Correct Marks : 5 Wrong Marks : 1

Question Key Details :

Key	Value
Comprehension	MCQ

$$\text{সরল করো : } (0.\bar{1})^2 \times \{1 - 9 \times (0.\bar{16})^2\}$$

(1)  $\frac{-1}{162}$

(2)  $\frac{1}{108}$

(3)  $\frac{7696}{10^6}$

(4)  $\frac{1}{106}$

Options :

212807119009 : 1

212807119010 : 2

212807119011 : 3

212807119012 : 4

Question Number : 268 Question Id : 21280719753 Question Type : MCQ Option Shuffling : No Is Question Mandatory : No Calculator : None  
Response Time : N.A Think Time : N.A Minimum Instruction Time : 0

Correct Marks : 5 Wrong Marks : 1

Question Key Details :

Key	Value
Comprehension	MCQ

$$\text{સરળ બંનાવો } (0.\bar{1})^2 \times \{1 - 9 \times (0.1\bar{6})^2\}$$

(1)  $\frac{-1}{162}$

(2)  $\frac{1}{108}$

(3)  $\frac{7696}{10^6}$

(4)  $\frac{1}{106}$

Options :

212807119009 : 1

212807119010 : 2

212807119011 : 3

212807119012 : 4

Question Number : 268 Question Id : 21280719753 Question Type : MCQ Option Shuffling : No Is Question Mandatory : No Calculator : None  
Response Time : N.A Think Time : N.A Minimum Instruction Time : 0

Correct Marks : 5 Wrong Marks : 1

Question Key Details :

Key	Value
Comprehension	MCQ

$$(0.\bar{1})^2 \times \{1 - 9 \times (0.1\bar{6})^2\} \text{ નો સરળ બંનાવો.}$$

(1)  $\frac{-1}{162}$

(2)  $\frac{1}{108}$

(3)  $\frac{7696}{10^6}$

(4)  $\frac{1}{106}$

Options :

212807119009 : 1

212807119010 : 2

212807119011 : 3

212807119012 : 4

Question Number : 268 Question Id : 21280719753 Question Type : MCQ Option Shuffling : No Is Question Mandatory : No Calculator : None  
Response Time : N.A Think Time : N.A Minimum Instruction Time : 0

Correct Marks : 5 Wrong Marks : 1

Question Key Details :

Key	Value
Comprehension	MCQ

$$\text{സോഡ്വാ } (0.\bar{1})^2 \times \{1 - 9 \times (0.1\bar{6})^2\}$$

(1)  $\frac{-1}{162}$

(2)  $\frac{1}{108}$

(3)  $\frac{7696}{10^6}$

(4)  $\frac{1}{106}$

Options :

212807119009 : 1

212807119010 : 2

212807119011 : 3

212807119012 : 4

Question Number : 268 Question Id : 21280729753 Question Type : MCQ Option Shuffling : No Is Question Mandatory : No Calculator : None  
Response Time : N.A Think Time : N.A Minimum Instruction Time : 0

Correct Marks : 5 Wrong Marks : 1

Question Key Details :

Key	Value
Comprehension	MCQ

$$\text{ഘണ്ടുകരണകൃത്യം : } (0.\bar{1})^2 \times \{1 - 9 \times (0.1\bar{6})^2\}$$

(1)  $\frac{-1}{162}$

(2)  $\frac{1}{108}$

(3)  $\frac{7696}{10^6}$

(4)  $\frac{1}{106}$

Options :

212807119009 : 1

212807119010 : 2

212807119011 : 3

212807119012 : 4

Question Number : 268 Question Id : 21280729753 Question Type : MCQ Option Shuffling : No Is Question Mandatory : No Calculator : None  
Response Time : N.A Think Time : N.A Minimum Instruction Time : 0

Correct Marks : 5 Wrong Marks : 1

Question Key Details :

Key	Value
Comprehension	MCQ



$$(0.\bar{1})^2 \times \{1 - 9 \times (0.1\bar{6})^2\}$$
 ର ସରଳ ମାନ ।

(1)  $\frac{-1}{162}$

(2)  $\frac{1}{108}$

(3)  $\frac{7696}{10^6}$

(4)  $\frac{1}{106}$

Options :

212807119009 : 1

212807119010 : 2

212807119011 : 3

212807119012 : 4

Question Number : 268 Question Id : 21280719753 Question Type : MCQ Option Shuffling : No Is Question Mandatory : No Calculator : None  
Response Time : N.A Think Time : N.A Minimum Instruction Time : 0

Correct Marks : 5 Wrong Marks : 1

Question Key Details :

Key	Value
Comprehension	MCQ

ମ୍ୟାଟ ଚର୍ଚ୍ଚା - Simplify  $(0.\bar{1})^2 \times \{1 - 9 \times (0.1\bar{6})^2\}$

(1)  $\frac{-1}{162}$

(2)  $\frac{1}{108}$

(3)  $\frac{7696}{10^6}$

(4)  $\frac{1}{106}$

Options :

212807119009 : 1

212807119010 : 2

212807119011 : 3

212807119012 : 4

Question Number : 268 Question Id : 21280719753 Question Type : MCQ Option Shuffling : No Is Question Mandatory : No Calculator : None  
Response Time : N.A Think Time : N.A Minimum Instruction Time : 0

Correct Marks : 5 Wrong Marks : 1

Question Key Details :

Key	Value
Comprehension	MCQ

$$\text{எளிமைப்படுத்து } (0.\bar{1})^2 \times \{1 - 9 \times (0.1\bar{6})^2\}$$

(1)  $\frac{-1}{162}$

(2)  $\frac{1}{108}$

(3)  $\frac{7696}{10^9}$

(4)  $\frac{1}{106}$

Options :

212807119009 : 1

212807119010 : 2

212807119011 : 3

212807119012 : 4

Question Number : 168 Question Id : 21280729753 Question Type : MCQ Option Shuffling : No Is Question Mandatory : No Calculator : None  
Response Time : N.A Think Time : N.A Minimum Instruction Time : 0

Correct Marks : 5 Wrong Marks : 1

Question Key Details :

Key	Value
Comprehension	MCQ

$$(0.\bar{1})^2 \times \{1 - 9 \times (0.1\bar{6})^2\} \text{ సరళీకరించండి :}$$

(1)  $\frac{-1}{162}$

(2)  $\frac{1}{108}$

(3)  $\frac{7696}{10^9}$

(4)  $\frac{1}{106}$

Options :

212807119009 : 1

212807119010 : 2

212807119011 : 3

212807119012 : 4

Question Number : 168 Question Id : 21280729753 Question Type : MCQ Option Shuffling : No Is Question Mandatory : No Calculator : None  
Response Time : N.A Think Time : N.A Minimum Instruction Time : 0

Correct Marks : 5 Wrong Marks : 1

Question Key Details :

Key	Value
Comprehension	MCQ

اس کو  $(0.1)^2 \times \{1 - 9 \times (0.16)^2\}$  آسان کریں :

$$\frac{-1}{162} \quad (1)$$

$$\frac{1}{108} \quad (2)$$

$$\frac{7696}{10^6} \quad (3)$$

$$\frac{1}{106} \quad (4)$$

Options :

212807119009 1

212807119010 2

212807119011 3

212807119012 4

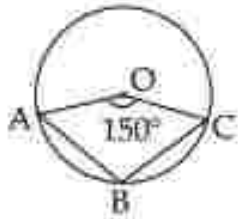
Question Number : 269 Question Id : 21280719754 Question Type : MCQ Option Shuffling : No Is Question Mandatory : No Calculator : None  
Response Time : N/A Think Time : N/A Minimum Instruction Time : 0

Correct Marks : 5 Wrong Marks : 1

Question Key Details :

Key	Value
Comprehension	MCQ

In the figure, O is centre of the circle. What is the measure of  $\angle ABC$  ?



(1)  $210^\circ$

(2)  $105^\circ$

(3)  $100^\circ$

(4)  $150^\circ$

Options :

212807119013 1

212807119014 2

212807119015 3

212807119016 4

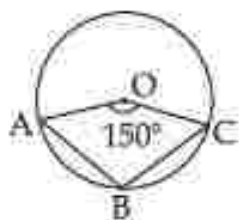
Question Number : 269 Question Id : 21280719754 Question Type : MCQ Option Shuffling : No Is Question Mandatory : No Calculator : None  
Response Time : N/A Think Time : N/A Minimum Instruction Time : 0

Correct Marks : 5 Wrong Marks : 1

Question Key Details :

Key	Value
Comprehension	MCQ

आकृति में, O वृत्त का केन्द्र है।  $\angle ABC$  का माप क्या है ?



- (1)  $210^\circ$   
 (2)  $105^\circ$   
 (3)  $100^\circ$   
 (4)  $150^\circ$

Options :

- 212807119013 1  
 212807119014 2  
 212807119015 3  
 212807119016 4

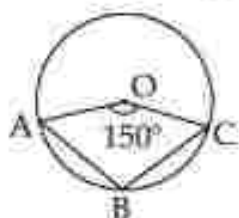
Question Number : 269 Question Id : 21280719754 Question Type : MCQ Option Shuffling : No Is Question Mandatory : No Calculator : None  
 Response Time : N.A Think Time : N.A Minimum Instruction Time : 0

Correct Marks : 5 Wrong Marks : 1

Question Key Details :

Key	Value
Comprehension	MCQ

চিত্রটিতে O হচ্ছে বৃত্তের কেন্দ্র।  $\angle ABC$  ৰ জোখ কি হ'ব ?



- (1)  $210^\circ$   
 (2)  $105^\circ$   
 (3)  $100^\circ$   
 (4)  $150^\circ$

Options :

- 212807119013 1  
 212807119014 2  
 212807119015 3  
 212807119016 4

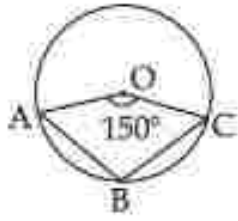
Question Number : 269 Question Id : 21280719754 Question Type : MCQ Option Shuffling : No Is Question Mandatory : No Calculator : None  
 Response Time : N.A Think Time : N.A Minimum Instruction Time : 0

Correct Marks : 5 Wrong Marks : 1

Question Key Details :

Key	Value
Comprehension	MCQ

প্রদর্শিত চিত্রে O হল বৃত্তের কেন্দ্র।  $\angle ABC$  -এর মাপ কি ?



- (1)  $210^\circ$   
(2)  $105^\circ$   
(3)  $100^\circ$   
(4)  $150^\circ$

Options :

212807119013 1  
212807119014 2  
212807119015 3  
212807119016 4

Question Number : 269 Question Id : 21280729754 Question Type : MCQ Option Shuffling : No Is Question Mandatory : No Calculator : None

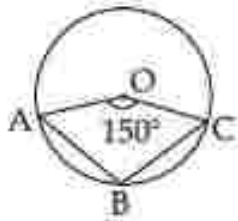
Response Time : N.A Think Time : N.A Minimum Instruction Time : 0

Correct Marks : 5 Wrong Marks : 1

Question Key Details :

Key	Value
Comprehension	MCQ

আদৃতিমাং বর্तुणमां O केन्द्र छे. ती  $\angle ABC$  नुं माप रुं छे?



- (1)  $210^\circ$   
(2)  $105^\circ$   
(3)  $100^\circ$   
(4)  $150^\circ$

Options :

212807119013 1  
212807119014 2  
212807119015 3  
212807119016 4

Question Number : 269 Question Id : 21280729754 Question Type : MCQ Option Shuffling : No Is Question Mandatory : No Calculator : None

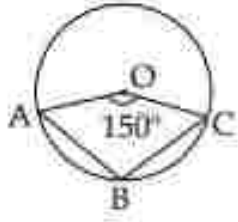
Response Time : N.A Think Time : N.A Minimum Instruction Time : 0

Correct Marks : 5 Wrong Marks : 1

Question Key Details :

Key	Value
Comprehension	MCQ

ಚಿತ್ರದಲ್ಲಿ 'O' ಯು ವೃತ್ತದ ಕೇಂದ್ರ,  $\angle ABC$  ಯ ಅಳತೆ ಏನು ?



- (1)  $210^\circ$   
(2)  $105^\circ$   
(3)  $100^\circ$   
(4)  $150^\circ$

Options :

- 212807119013 : 1  
212807119014 : 2  
212807119015 : 3  
212807119016 : 4

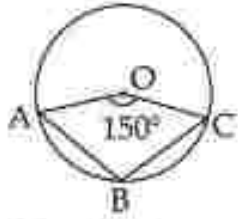
Question Number : 269 Question Id : 21280729754 Question Type : MCQ Option Shuffling : No Is Question Mandatory : No Calculator : None  
Response Time : N.A Think Time : N.A Minimum Instruction Time : 0

Correct Marks : 5 Wrong Marks : 1

Question Key Details :

Key	Value
Comprehension	MCQ

ಪುಟಲ ಅಕೃತಿಯ O ಹಾ ವರ್ತುಜ್ಜಾ ಕೇಂದ್ರ ಬಿಂದು ಆಹೆ  $\angle ABC$  ಚೆ ಮೂಲ್ಯ ಕಿಲೆಲಿ ಆಹೆ ?



- (1)  $210^\circ$   
(2)  $105^\circ$   
(3)  $100^\circ$   
(4)  $150^\circ$

Options :

- 212807119013 : 1  
212807119014 : 2  
212807119015 : 3  
212807119016 : 4

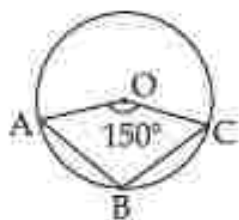
Question Number : 269 Question Id : 21280729754 Question Type : MCQ Option Shuffling : No Is Question Mandatory : No Calculator : None  
Response Time : N.A Think Time : N.A Minimum Instruction Time : 0

Correct Marks : 5 Wrong Marks : 1

Question Key Details :

Key	Value
Comprehension	MCQ

തന്നിരിക്കുന്ന ചിത്രത്തിൽ, O വൃത്തത്തിന്റെ കേന്ദ്രമാണ്.  $\angle ABC$  യുടെ അളവ് എത്ര ?



- (1)  $210^\circ$
- (2)  $105^\circ$
- (3)  $100^\circ$
- (4)  $150^\circ$

Options :

- 212807119013 1
- 212807119014 2
- 212807119015 3
- 212807119016 4

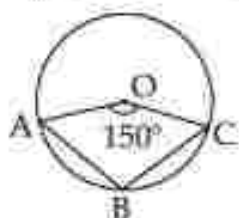
Question Number : 269 Question Id : 21280729754 Question Type : MCQ Option Shuffling : No Is Question Mandatory : No Calculator : None  
Response Time : N.A Think Time : N.A Minimum Instruction Time : 0

Correct Marks : 5 Wrong Marks : 1

Question Key Details :

Key	Value
Comprehension	MCQ

നീളം ഉപയോഗിക്കാതെ O ബിന്ദു കൂടെ കേന്ദ്രം കിട്ടൂ.  $\angle ABC$  ന്റെ മൂല്യം/മൂല്യം കണ്ടെത്തുക ?



- (1)  $210^\circ$
- (2)  $105^\circ$
- (3)  $100^\circ$
- (4)  $150^\circ$

Options :

- 212807119013 1
- 212807119014 2
- 212807119015 3
- 212807119016 4

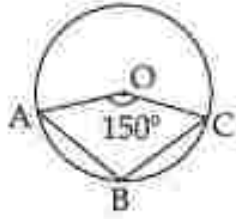
Question Number : 269 Question Id : 21280729754 Question Type : MCQ Option Shuffling : No Is Question Mandatory : No Calculator : None  
Response Time : N.A Think Time : N.A Minimum Instruction Time : 0

Correct Marks : 5 Wrong Marks : 1

Question Key Details :

Key	Value
Comprehension	MCQ

सिंहत वलर O रेंवर दल वेंसर रें। अं  $\angle ABC$  दल डलथ वी रें?



- (1)  $210^\circ$
- (2)  $105^\circ$
- (3)  $100^\circ$
- (4)  $150^\circ$

Options :

- 212807119013 1
- 212807119014 2
- 212807119015 3
- 212807119016 4

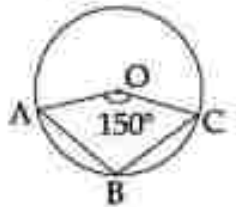
Question Number : 269 Question Id : 21280719754 Question Type : MCQ Option Shuffling : No Is Question Mandatory : No Calculator : None Response Time : N.A Think Time : N.A Minimum Instruction Time : 0

Correct Marks : 5 Wrong Marks : 1

Question Key Details :

Key	Value
Comprehension	MCQ

11. த்தில், O ஂனபது வட்டத்தின் மையமாகும்.  $\angle ABC$  இன் அளவீடு ஂன்ன?



- (1)  $210^\circ$
- (2)  $105^\circ$
- (3)  $100^\circ$
- (4)  $150^\circ$

Options :

- 212807119013 1
- 212807119014 2
- 212807119015 3
- 212807119016 4

Question Number : 269 Question Id : 21280719754 Question Type : MCQ Option Shuffling : No Is Question Mandatory : No Calculator : None Response Time : N.A Think Time : N.A Minimum Instruction Time : 0

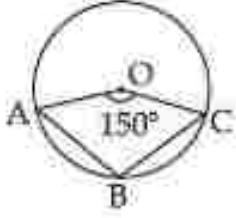
Correct Marks : 5 Wrong Marks : 1

Question Key Details :

Key	Value
Comprehension	MCQ



పరబలో O అనేది వృత్త కేంద్రం.  $\angle ABC$  కొలత ఎంత ?



- (1)  $210^\circ$
- (2)  $105^\circ$
- (3)  $100^\circ$
- (4)  $150^\circ$

Options :

- 212907119013 1
- 212907119014 2
- 212907119015 3
- 212907119016 4

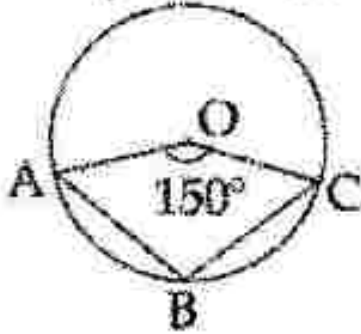
Question Number : 269 Question Id : 21280729754 Question Type : MCQ Option Shuffling : No Is Question Mandatory : No Calculator : None  
Response Time : N.A Think Time : N.A Minimum Instruction Time : 0

Correct Marks : 5 Wrong Marks : 1

Question Key Details :

Key	Value
Comprehension	MCQ

شکل میں O دائرہ کا مرکز ہے۔ تو  $\angle ABC$  کی پیمائش کیا ہے ؟



- $210^\circ$  (1)
- $105^\circ$  (2)
- $100^\circ$  (3)
- $150^\circ$  (4)

Options :

- 212907119013 1
- 212907119014 2
- 212907119015 3
- 212907119016 4

Question Number : 270 Question Id : 21280729755 Question Type : MCQ Option Shuffling : No Is Question Mandatory : No Calculator : None  
Response Time : N.A Think Time : N.A Minimum Instruction Time : 0

Correct Marks : 5 Wrong Marks : 1

Question Key Details :

Key	Value
Comprehension	MCQ

The sum of the first four terms of an A.P. is 56 and the sum of its last four terms is 112. If its first term is 11, then find the number of terms.

- (1) 7
- (2) 11
- (3) 13
- (4) 17

Options :

- 212807119017 1
- 212807119018 2
- 212807119019 3
- 212807119020 4

Question Number : 270 Question Id : 21280729755 Question Type : MCQ Option Shuffling : No Is Question Mandatory : No Calculator : None  
Response Time : N.A Think Time : N.A Minimum Instruction Time : 0

Correct Marks : 5 Wrong Marks : 1

Question Key Details :

Key	Value
Comprehension	MCQ

एक समांतर श्रेणी के प्रथम चार पदों का योग 56 है और इसके अंतिम चार पदों का योग 112 है। यदि इसका प्रथम पद 11 है तो पदों की संख्या ज्ञात कीजिए।

- (1) 7
- (2) 11
- (3) 13
- (4) 17

Options :

- 212807119017 1
- 212807119018 2
- 212807119019 3
- 212807119020 4

Question Number : 270 Question Id : 21280729755 Question Type : MCQ Option Shuffling : No Is Question Mandatory : No Calculator : None  
Response Time : N.A Think Time : N.A Minimum Instruction Time : 0

Correct Marks : 5 Wrong Marks : 1

Question Key Details :

Key	Value
Comprehension	MCQ

এটা সমান্তর প্রগতির প্রথম চারটি সংখ্যার যোগফল হৈছে 56 আৰু শেষৰ চাৰিটা সংখ্যাৰ যোগফল হৈছে 112। যদি তাৰ প্রথম সংখ্যাটো 11, তেন্তে কিমানটা সংখ্যা আছে নিৰ্ধাৰণ কৰা।

- (1) 7
- (2) 11
- (3) 13
- (4) 17

Options :

- 212807119017 1
- 212807119018 2
- 212807119019 3
- 212807119020 4

Question Number : 270 Question Id : 21280719755 Question Type : MCQ Option Shuffling : No Is Question Mandatory : No Calculator : None  
Response Time : N.A Think Time : N.A Minimum Instruction Time : 0

Correct Marks : 5 Wrong Marks : 1

Question Key Details :

Key	Value
Comprehension	MCQ

ಸಮಾಪ್ತರ ಪ್ರಗತಿಯಲ್ಲಿ ಪ್ರಥಮ ಪದದ ಸಂಖ್ಯೆ 56 ಆಗಿತ್ತು ಮತ್ತು ತರುವಿಕೆ ಮಾಡಿದ ಪದದ ಸಂಖ್ಯೆ 112. ಇದರಲ್ಲಿ ಪ್ರಥಮ ಪದ 11 ಹೆಚ್ಚು, ತರುವಿಕೆ ಮಾಡಿದ ಪದ ಸಂಖ್ಯೆ ನಿರ್ಧರಿಸಿ.

- (1) 7
- (2) 11
- (3) 13
- (4) 17

Options :

21280719017:1

21280719018:2

21280719019:3

21280719020:4

Question Number : 270 Question Id : 21280719755 Question Type : MCQ Option Shuffling : No Is Question Mandatory : No Calculator : None  
Response Time : N.A Think Time : N.A Minimum Instruction Time : 0

Correct Marks : 5 Wrong Marks : 1

Question Key Details :

Key	Value
Comprehension	MCQ

A.P. ನಲ್ಲಿ ಪ್ರಥಮ ಪದದ ಸಂಖ್ಯೆ 56 ಆಗಿತ್ತು ಮತ್ತು ತರುವಿಕೆ ಮಾಡಿದ ಪದದ ಸಂಖ್ಯೆ 112 ಆಗಿತ್ತು. ಇದರಲ್ಲಿ ಪ್ರಥಮ ಪದ 11 ಹೆಚ್ಚು, ತರುವಿಕೆ ಮಾಡಿದ ಪದ ಸಂಖ್ಯೆ ನಿರ್ಧರಿಸಿ.

- (1) 7
- (2) 11
- (3) 13
- (4) 17

Options :

21280719017:1

21280719018:2

21280719019:3

21280719020:4

Question Number : 270 Question Id : 21280719755 Question Type : MCQ Option Shuffling : No Is Question Mandatory : No Calculator : None  
Response Time : N.A Think Time : N.A Minimum Instruction Time : 0

Correct Marks : 5 Wrong Marks : 1

Question Key Details :

Key	Value
Comprehension	MCQ

A.P. ನಲ್ಲಿ ಪ್ರಥಮ ಪದದ ಸಂಖ್ಯೆ 56 ಆಗಿತ್ತು ಮತ್ತು ತರುವಿಕೆ ಮಾಡಿದ ಪದದ ಸಂಖ್ಯೆ 112 ಆಗಿತ್ತು. ಇದರಲ್ಲಿ ಪ್ರಥಮ ಪದ 11 ಹೆಚ್ಚು, ತರುವಿಕೆ ಮಾಡಿದ ಪದ ಸಂಖ್ಯೆ ನಿರ್ಧರಿಸಿ.

- (1) 7
- (2) 11
- (3) 13
- (4) 17

Options :

21280719017:1

21280719018:2

212507119019.3  
212507119020.4

Question Number : 270 Question Id : 21250719755 Question Type : MCQ Option Shuffling : No Is Question Mandatory : No Calculator : None  
Response Time : N.A Think Time : N.A Minimum Instruction Time : 0

Correct Marks : 5 Wrong Marks : 1

Question Key Details :

Key	Value
Comprehension	MCQ

एक गणित श्रेढीतील पहिल्या चार अंकांची बेरीज 56 असून शेवटच्या चार अंकांची बेरीज 112 आहे. जर पहिला अंक 11 असेल, तर या श्रेढीतील एकूण अंक शोध.

- (1) 7
- (2) 11
- (3) 13
- (4) 17

Options :

212507119019.3  
212507119018.2  
212507119019.3  
212507119020.4

Question Number : 270 Question Id : 21250719755 Question Type : MCQ Option Shuffling : No Is Question Mandatory : No Calculator : None  
Response Time : N.A Think Time : N.A Minimum Instruction Time : 0

Correct Marks : 5 Wrong Marks : 1

Question Key Details :

Key	Value
Comprehension	MCQ

ഒരു സമാന്തര ശ्रेढीയിലെ ആദ്യത്തെ 4 പദങ്ങളുടെ തുക 56 ൽ, അവസാനത്തെ 4 പദങ്ങളുടെ തുക 112 ആണ്. ഈ ശ्रेढीയിൽ ആകെ എത്ര പദങ്ങൾ ഉണ്ടായിരിക്കും ?

- (1) 7
- (2) 11
- (3) 13
- (4) 17

Options :

212507119019.3  
212507119018.2  
212507119019.3  
212507119020.4

Question Number : 270 Question Id : 21250719755 Question Type : MCQ Option Shuffling : No Is Question Mandatory : No Calculator : None  
Response Time : N.A Think Time : N.A Minimum Instruction Time : 0

Correct Marks : 5 Wrong Marks : 1

Question Key Details :

Key	Value
Comprehension	MCQ

ਗੇਜਿਟਿਵ ਸਮਾਜਕ ਲੋਗ (A.P.) ਨੂੰ ਪੁਰਸ਼ਾਂ ਦੀ ਧਰਮ ਆਗਠ 56 ਅਤੇ 'ਖਰ' ਲੋਗ ਦੀ ਧਰਮ ਆਗਠ 112 ਹੈ ।  
 'ਖਰ' ਪੁਰਸ਼ ਧਰਮ ਦੀ 11, ਲੋਗ (A.P.) ਨੂੰ ਲੋਗ ਦੀ ਧਰਮ ਹੈ ?

- (1) 7
- (2) 11
- (3) 13
- (4) 17

Options :

- 212507119017:1  
 212507119018:2  
 212507119019:3  
 212507119020:4

Question Number : 270 Question Id : 21250719755 Question Type : MCQ Option Shuffling : No Is Question Mandatory : No Calculator : None  
 Response Time : N.A Think Time : N.A Minimum Instruction Time : 0  
 Correct Marks : 5 Wrong Marks : 1

Question Key Details :

Key	Value
Comprehension	MCQ

A.P. ਦੇ ਪਹਿਲੇ ਚਾਰ ਪਦਾਂ ਦਾ ਜੋੜ 56 ਹੈ । ਆਖਰੀ ਚਾਰ ਪਦਾਂ ਦਾ ਜੋੜ 112 ਹੈ । ਜੇਕਰ ਇਸਦਾ ਪਹਿਲਾ ਪਦ 11 ਹੈ ਤਾਂ ਪਦਾਂ ਦੀ ਸੰਖਿਆ ਲੱਭੋ ।

- (1) 7
- (2) 11
- (3) 13
- (4) 17

Options :

- 212507119017:1  
 212507119018:2  
 212507119019:3  
 212507119020:4

Question Number : 270 Question Id : 21250719755 Question Type : MCQ Option Shuffling : No Is Question Mandatory : No Calculator : None  
 Response Time : N.A Think Time : N.A Minimum Instruction Time : 0  
 Correct Marks : 5 Wrong Marks : 1

Question Key Details :

Key	Value
Comprehension	MCQ

ਉਹ ਚ.ਪੀ.ਪੀ.ਨੂੰ ਮੁਠਲ ਨਾਨਕੁ ਸੋਮਾਹਕਲੀਨ ਸੁਪੰਡੁਠੁਠੋਠਾਕੇ 56 ਮਹੁਰੁਮੁ ਅਠਨੁ  
 ਕੁਠੇਠੀ ਨਾਨਕੁ ਸੋਮਾਹਕਲੀਨ ਸੁਪੰਡੁਠੁਠੋਠਾਕੇ 112 ਆਰੁਮੁ. ਅਠਨੁ ਮੁਠਲੁ  
 ਸੋਮਾਲੁ 11 ਏਨੁਹੁਰਾਲੁ, ਸੋਮਾਹਕਲੀਨ ਏਨੁਨੁਨੀਕੁਕੇਕੇਠਾਕੁ ਕੁਨੁਠੁਰੀਠੁਠੁ.

- (1) 7
- (2) 11
- (3) 13
- (4) 17

Options :

- 212507119017:1  
 212507119018:2  
 212507119019:3  
 212507119020:4

Question Number : 270 Question Id : 21280729755 Question Type : MCQ Option Shuffling : No Is Question Mandatory : No Calculator : None  
Response Time : N.A Think Time : N.A Minimum Instruction Time : 0

Correct Marks : 5 Wrong Marks : 1

Question Key Details :

Key	Value
Comprehension	MCQ

A.P. లోని మొదటి నాలుగు పదాల మొత్తం 56. చివరి నాలుగు పదాల మొత్తం 112. దాని మొదటి పదం 11 అయితే, పదాల సంఖ్య కనుక్కోండి.

- (1) 7  
(2) 11  
(3) 13  
(4) 17

Options :

- 212807119017 1  
212807119018 2  
212807119019 3  
212807119020 4

Question Number : 270 Question Id : 21280729755 Question Type : MCQ Option Shuffling : No Is Question Mandatory : No Calculator : None  
Response Time : N.A Think Time : N.A Minimum Instruction Time : 0

Correct Marks : 5 Wrong Marks : 1

Question Key Details :

Key	Value
Comprehension	MCQ

ایک A.P کے پہلے چار نمبروں کا مجموعہ 56 ہے۔ اور اس کے آخری چار نمبروں کا مجموعہ 112 ہے۔ اب اگر اس کا پہلا نمبر 11 ہو، تو نمبروں کی کل تعداد کیا ہے۔

- (1) 7  
(2) 11  
(3) 13  
(4) 17

Options :

- 212807119017 1  
212807119018 2  
212807119019 3  
212807119020 4

Question Number : 271 Question Id : 21280729756 Question Type : MCQ Option Shuffling : No Is Question Mandatory : No Calculator : None  
Response Time : N.A Think Time : N.A Minimum Instruction Time : 0

Correct Marks : 5 Wrong Marks : 1

Question Key Details :

Key	Value
Comprehension	MCQ

Match List - I with List - II.

List - I

(Santurries/National Park)

- (A) Kaziranga National Park  
(B) Rann of Kutch Sanctuary  
(C) Sunderbans National Park  
(D) Periyar National Park

List - II

(Animals)

- (I) Wild Ass  
(II) Elephants  
(III) One-horned Rhinoceros  
(IV) The Royal Bengal Tigers

Choose the **most appropriate** answer from the options given below :

- (1) (A)-(II), (B)-(I), (C)-(III), (D)-(IV)  
(2) (A)-(III), (B)-(I), (C)-(IV), (D)-(II)  
(3) (A)-(IV), (B)-(III), (C)-(II), (D)-(I)  
(4) (A)-(IV), (B)-(II), (C)-(I), (D)-(III)

Options :

- 212807119021 1  
212807119022 2  
212807119023 3  
212807119024 4

Question Number : 271 Question Id : 21280729756 Question Type : MCQ Option Shuffling : No Is Question Mandatory : No Calculator : None  
Response Time : N.A Think Time : N.A Minimum Instruction Time : 0

Correct Marks : 5 Wrong Marks : 1

Question Key Details :

Key	Value
Comprehension	MCQ

सूची-I से सूची-II का मिलान कीजिए:

सूची-I

(अभयारण्य/राष्ट्रीय उद्यान)

- (A) काजीरंगा राष्ट्रीय उद्यान  
(B) रन ऑफ कच्छ अभयारण्य  
(C) सुंदरवन राष्ट्रीय उद्यान  
(D) पेरियार राष्ट्रीय उद्यान

सूची-II

(पशु)

- (I) जंगली गधा  
(II) हाथी  
(III) एक सींग वाला राइनोसिरस  
(IV) द रॉयल बंगाल टाइगर

नीचे दिए गए विकल्पों में से **सर्वाधिक** उपयुक्त उत्तर का चयन कीजिए :

- (1) (A)-(II), (B)-(I), (C)-(III), (D)-(IV)  
(2) (A)-(III), (B)-(I), (C)-(IV), (D)-(II)  
(3) (A)-(IV), (B)-(III), (C)-(II), (D)-(I)  
(4) (A)-(IV), (B)-(II), (C)-(I), (D)-(III)

Options :

- 212807119021 1  
212807119022 2  
212807119023 3  
212807119024 4

Question Number : 271 Question Id : 21280729756 Question Type : MCQ Option Shuffling : No Is Question Mandatory : No Calculator : None  
Response Time : N.A Think Time : N.A Minimum Instruction Time : 0

Correct Marks : 5 Wrong Marks : 1

Question Key Details :

Key	Value
Comprehension	MCQ

তালিকা - I ন সৈতে তালিকা - II মিলোৱা :

তালিকা - I	তালিকা - II
(অভয়াবণ্য বাগ্ৰীয় উদ্যান)	(জীব-জন্তু)
(A) কাজিৰঙা বাগ্ৰীয় উদ্যান	(I) কলবাঁহা গাধা
(B) কচ্ছৰ কল অভয়াবণ্য	(II) হাতী
(C) সুন্দৰবন বাগ্ৰীয় উদ্যান	(III) এটা খৰ্গৰি গঁড়
(D) পেরিয়াৰ বাগ্ৰীয় উদ্যান	(IV) ঢেকীয়ালতীয়া বাঘ

তলত দিয়া বিকল্পসমূহৰপৰা শুদ্ধ উত্তৰটো বাছি উলিওৱা :

- (1) (A)-(II), (B)-(I), (C)-(III), (D)-(IV)
- (2) (A)-(III), (B)-(I), (C)-(IV), (D)-(II)
- (3) (A)-(IV), (B)-(III), (C)-(II), (D)-(I)
- (4) (A)-(IV), (B)-(II), (C)-(I), (D)-(III)

Options :

- 212807119021 1  
212807119022 2  
212807119023 3  
212807119024 4

Question Number : 271 Question Id : 21280719756 Question Type : MCQ Option Shuffling : No Is Question Mandatory : No Calculator : None  
Response Time : N.A Think Time : N.A Minimum Instruction Time : 0

Correct Marks : 5 Wrong Marks : 1

Question Key Details :

Key	Value
Comprehension	MCQ

তালিকা I এর সঙ্গে তালিকা II মেলাও :

তালিকা I	তালিকা II
(অভয়াবণ্য জাতীয় উদ্যান)	(পশু)
(A) কাজিৰঙা জাতীয় উদ্যান	(I) কল গাধা
(B) কচ্ছৰ ৰণ অভয়াবণ্য	(II) হাতী
(C) সুন্দৰবন জাতীয় উদ্যান	(III) এক-শৃঙ্গ গঁড়
(D) পেরিয়াৰ জাতীয় উদ্যান	(IV) বন্যাল বেঙ্গল টাইগাৰ

নিম্নলিখিত বিকল্পগুলি থেকে সঠিক উত্তৰটি বেছে নাও :

- (1) (A)-(II), (B)-(I), (C)-(III), (D)-(IV)
- (2) (A)-(III), (B)-(I), (C)-(IV), (D)-(II)
- (3) (A)-(IV), (B)-(III), (C)-(II), (D)-(I)
- (4) (A)-(IV), (B)-(II), (C)-(I), (D)-(III)

Options :

- 212807119021 1  
212807119022 2  
212807119023 3  
212807119024 4



Question Number : 271 Question Id : 21280719756 Question Type : MCQ Option Shuffling : No Is Question Mandatory : No Calculator : None  
Response Time : N.A Think Time : N.A Minimum Instruction Time : 0

Correct Marks : 5 Wrong Marks : 1

Question Key Details :

Key	Value
Comprehension	MCQ

ಸೂಚಿ-1 ಸಾથೆ ಸೂಚಿ-2 ನೆ ಗೆಡೆ.

ಸೂಚಿ-1

ಸೂಚಿ-2

- |                                     |                             |
|-------------------------------------|-----------------------------|
| (A) ಡಾಕ್ಟಿಂಗ್ ನೆಶನಲ್ ಪಾರ್ಕ್ (ಡಿಖಾನ) | (I) ಕೆಂಗಲಿ ಗೆಡೆ             |
| (B) ಕುಣಿ ಸೆನ್ಸಿಟಿವ್ ನು ರಣ           | (II) ಹುಡುಗೊ                 |
| (C) ಸುಂದರ್ಬನ್ ನೆಶನಲ್ ಪಾರ್ಕ್         | (III) ಔಕ-ಶಿಂಟಾಪಾಣಿ ಗೆಡೆ     |
| (D) ಪೆರಿಯಾರ ನೆಶನಲ್ ಪಾರ್ಕ್           | (IV) ಏ ರೊಬಲ್ ಬೆಂಗಾಲ ಡಾಕ್ಟರ್ |

ನೀಚೆ ಆಪೆಲಾ ವಿಕಲ್ಪೊಂಥೆ ಸಾಖೊ ಜವಾಬ ಪಸೆಡೆ ಕರೊ.

- (1) (A)-(II), (B)-(I), (C)-(III), (D)-(IV)
- (2) (A)-(III), (B)-(I), (C)-(IV), (D)-(II)
- (3) (A)-(IV), (B)-(III), (C)-(II), (D)-(I)
- (4) (A)-(IV), (B)-(II), (C)-(I), (D)-(III)

Options :

21280719021 1

21280719022 2

21280719023 3

21280719024 4

Question Number : 271 Question Id : 21280719756 Question Type : MCQ Option Shuffling : No Is Question Mandatory : No Calculator : None  
Response Time : N.A Think Time : N.A Minimum Instruction Time : 0

Correct Marks : 5 Wrong Marks : 1

Question Key Details :

Key	Value
Comprehension	MCQ

ಪಟ್ಟಿ - I ಅನ್ನು ಪಟ್ಟಿ - II ರ ಜೊತೆ ಹೊಂದಿಸಿ.

ಪಟ್ಟಿ - I

ಪಟ್ಟಿ - II

- |                                  |                             |
|----------------------------------|-----------------------------|
| (A) ಕಾಜಿರಂಗ ರಾಷ್ಟ್ರೀಯ ಉದ್ಯಾನವನ   | (I) ಕಾಡು ಕತ್ತೆ              |
| (B) ರಾನ್ ಆಫ್ ಕುಚ್ ವನ್ಯಜೀವಿ       | (II) ಆನೆಗಳು                 |
| (C) ಸುಂದರ್ಬನ್ ರಾಷ್ಟ್ರೀಯ ಉದ್ಯಾನವನ | (III) ಒಂದು ಕೊಂಬಿನ ರೈನೋಸಾರಸ್ |
| (D) ಪೆರಿಯಾರ್ ರಾಷ್ಟ್ರೀಯ ಉದ್ಯಾನವನ  | (IV) ರಾಯಲ್ ಬೆಂಗಾಲ ಹುಲಿಗಳು   |

ಕೆಳಗೆ ನೀಡಿರುವ ಆಯ್ಕೆಗಳಿಂದ ಸರಿಯಾದ ಉತ್ತರವನ್ನು ಆರಿಸಿ.

- (1) (A)-(II), (B)-(I), (C)-(III), (D)-(IV)
- (2) (A)-(III), (B)-(I), (C)-(IV), (D)-(II)
- (3) (A)-(IV), (B)-(III), (C)-(II), (D)-(I)
- (4) (A)-(IV), (B)-(II), (C)-(I), (D)-(III)

Options :

21280719021 1

21280719022 2

21280719023 3

21280719024 4

Question Number : 271 Question Id : 21280719756 Question Type : MCQ Option Shuffling : No Is Question Mandatory : No Calculator : None  
 Response Time : N.A Think Time : N.A Minimum Instruction Time : 0

Correct Marks : 5 Wrong Marks : 1

Question Key Details :

Key	Value
Comprehension	MCQ

यादी - I आणि यादी - II जुळवा.

यादी - I

(राष्ट्रीय उद्याने, अभयारण्ये)

- (A) काझिरंगा राष्ट्रीय उद्यान
- (B) कच्छचे रण अभयारण्य
- (C) सुंदरबन राष्ट्रीय उद्यान
- (D) पेरियार राष्ट्रीय उद्यान

यादी - II

(प्राणी)

- (I) जंगली गाढव
- (II) हत्ती
- (III) एक शिडूंगी गेंडा
- (IV) बंगाली वाघ

खालीलपैकी दिलेल्या पर्यायांमधून योग्य पर्याय निवडा :

- (1) (A)-(II), (B)-(I), (C)-(III), (D)-(IV)
- (2) (A)-(III), (B)-(I), (C)-(IV), (D)-(II)
- (3) (A)-(IV), (B)-(III), (C)-(II), (D)-(I)
- (4) (A)-(IV), (B)-(II), (C)-(I), (D)-(III)

Options :

212807119021 1

212807119022 2

212807119023 3

212807119024 4

Question Number : 271 Question Id : 21280719756 Question Type : MCQ Option Shuffling : No Is Question Mandatory : No Calculator : None  
 Response Time : N.A Think Time : N.A Minimum Instruction Time : 0

Correct Marks : 5 Wrong Marks : 1

Question Key Details :

Key	Value
Comprehension	MCQ

പട്ടിക - I ഉം പട്ടിക - II ഉം തമ്മിൽ ചേരുമ്പടി ചേർക്കുക.

പട്ടിക - I

(വന്യജീവി സങ്കേതവും  
ദേശീയ ഉദ്യാനവും)

- (A) കാസിനംഗ ദേശീയ ഉദ്യാനം
- (B) റാൻ ഓഫ് ഖച് സങ്കേതം
- (C) സുന്ദർബൻസ് ദേശീയ ഉദ്യാനം
- (D) പെരിയാർ ദേശീയ ഉദ്യാനം

പട്ടിക - II

(മൃഗങ്ങൾ)

- (I) കാട്ടു കഴുത
- (II) ആന
- (III) കണ്ടോമൃഗം
- (IV) ബംഗാൾ കടുവ

താഴെ കൊടുത്തിട്ടുള്ളതിൽ നിന്ന് ശരിയായ ഉത്തരം തിരഞ്ഞെടുത്ത് എഴുതുക.

- (1) (A)-(II), (B)-(I), (C)-(III), (D)-(IV)
- (2) (A)-(III), (B)-(I), (C)-(IV), (D)-(II)
- (3) (A)-(IV), (B)-(III), (C)-(II), (D)-(I)
- (4) (A)-(IV), (B)-(II), (C)-(I), (D)-(III)

Options :

212807119021 1

212807119022 2

212807119023 3

212807119024 4

Question Number : 271 Question Id : 21280729756 Question Type : MCQ Option Shuffling : No Is Question Mandatory : No Calculator : None  
Response Time : N.A Think Time : N.A Minimum Instruction Time : 0

Correct Marks : 5 Wrong Marks : 1

Question Key Details :

Key	Value
Comprehension	MCQ

ଚାରିଜା-I ସହିତ ଚାରିଜା-II କୁ ମିଳାନ୍ତୁ ।

ଚାରିଜା-I

(ଅଜୟନାଶ୍ୟ)

ଚାରିଜା-II

(ପଶୁ)

(A) ଭାବିରଙ୍ଗ ନ୍ୟାସନାଲ ପାର୍କ

(I) କଙ୍କରି ପଥ

(B) ଭାନୁ ଅଫ କୁଚ୍ ସେଣ୍ଟୁରି  
(Rann of Kutch Sanctuary)

(II) ହାତୀମାରେ

(C) ସୁନ୍ଦରବନ ନ୍ୟାସନାଲ ପାର୍କ

(III) ଗୋଟିଏ ସିଙ୍ଗ ଥିବା ଲେଖା (Rhinoceros)

(D) ପେରିୟାର ନ୍ୟାସନାଲ ପାର୍କ

(IV) ରତ୍ନାକର ବେଙ୍ଗଲ ଦାଢ଼

ନିମ୍ନରେ ଦିଆଯାଇଥିବା ଦିନକ ମଧ୍ୟରୁ ସଠିକ୍ ଜୋଡ଼ିକୁ ଚିହ୍ନଟ କରନ୍ତୁ ।

(1) (A)-(II), (B)-(I), (C)-(III), (D)-(IV)

(2) (A)-(III), (B)-(I), (C)-(IV), (D)-(II)

(3) (A)-(IV), (B)-(III), (C)-(II), (D)-(I)

(4) (A)-(IV), (B)-(II), (C)-(I), (D)-(III)

Options :

212807119031 1

212807119032 2

212807119033 3

212807119034 4

Question Number : 271 Question Id : 21280729756 Question Type : MCQ Option Shuffling : No Is Question Mandatory : No Calculator : None  
Response Time : N.A Think Time : N.A Minimum Instruction Time : 0

Correct Marks : 5 Wrong Marks : 1

Question Key Details :

Key	Value
Comprehension	MCQ

ਮਿਲਾਣ ਕਰੋ ਲਿਸਟ-I ਦਾ ਲਿਸਟ-II ਨਾਲ।

ਲਿਸਟ-I

(ਰਾਸ਼ਟਰੀ ਜੰਗਲ)

- (A) ਕਾਂਜ਼ੋਰੰਗ ਨੈਸ਼ਨਲ ਪਾਰਕ
- (B) ਰੇਨ ਆਫ ਕੁਚ ਸੈਂਚੁਰੀ
- (C) ਸੁੰਦਰਬਨ ਨੈਸ਼ਨਲ ਪਾਰਕ
- (D) ਪੈਰੀਆਰ ਨੈਸ਼ਨਲ ਪਾਰਕ

ਲਿਸਟ-II

(ਜਾਨਵਰਾਂ ਦੇ ਰਾਸ਼ਟਰੀ ਜੰਗਲ)

- (I) ਜੰਗਲੀ ਗਧਾ
- (II) ਹਾਥੀ
- (III) ਇਕ-ਸਿੰਭਾ ਗੈਂਡਾ
- (IV) ਸ਼ਾਹੀ ਬੰਗਾਲੀ ਬਾਘ

ਹੇਠ ਲਿਖਿਆ ਵਿਕਲਪਾਂ ਵਿੱਚ ਸਹੀ ਉੱਤਰ ਦੀ ਚੋਣ ਕਰੋ :

- (1) (A)-(II), (B)-(I), (C)-(III), (D)-(IV)
- (2) (A)-(III), (B)-(I), (C)-(IV), (D)-(II)
- (3) (A)-(IV), (B)-(III), (C)-(II), (D)-(I)
- (4) (A)-(IV), (B)-(II), (C)-(I), (D)-(III)

Options :

- 212807119021-1
- 212807119022-2
- 212807119023-3
- 212807119024-4

Question Number : 271 Question Id : 21280719756 Question Type : MCQ Option Shuffling : No Is Question Mandatory : No Calculator : None :  
Response Time : N.A Think Time : N.A Minimum Instruction Time : 0

Correct Marks : 5 Wrong Marks : 1

Question Key Details :

Key	Value
Comprehension	MCQ

போட்டி பட்டியல்-I உடன் பட்டியல்-II

பட்டியல்-I

பட்டியல்-II

(சாண்டிரிஸ் தேசியப் பூங்கா)

(விவங்குகள்)

(A) காசிரங்கா தேசியப் பூங்கா

(I) காட்டுக் கழுதை

(B) ரான் ஆஃப் கட்ச் சரணாலயம்

(II) யானைகள்

(C) சுந்தரவன தேசியப் பூங்கா

(III) ஒற்றைக்கொம்பு காண்டாமிருகம்

(D) பெரியார் தேசியப் பூங்கா

(IV) ராயல் வங்காளப் புலிகள்

கீழே கொடுக்கப்பட்டுள்ள விருப்பங்களிலிருந்துமிகவும் பொருத்தமான பதிவைத் தேர்வுசெய்க:

- (1) (A)-(II), (B)-(I), (C)-(III), (D)-(IV)
- (2) (A)-(III), (B)-(I), (C)-(IV), (D)-(II)
- (3) (A)-(IV), (B)-(III), (C)-(II), (D)-(I)
- (4) (A)-(IV), (B)-(II), (C)-(I), (D)-(III)

Options :

- 212807119021 1  
212807119022 2  
212807119023 3  
212807119024 4

Question Number : 271 Question Id : 21280719756 Question Type : MCQ Option Shuffling : No Is Question Mandatory : No Calculator : None

Response Time : N.A Think Time : N.A Minimum Instruction Time : 0

Correct Marks : 5 Wrong Marks : 1

Question Key Details :

Key	Value
Comprehension	MCQ

జాబితా - I ను జాబితా - II తో అనుబంధించండి :

జాబితా - I

(అభయారణ్య జాతీయ పార్కు)

- (A) కాజీరంగా నేషనల్ పార్కు  
(B) రాన్సి అఫ్ కెన్ అభయారణ్యం  
(C) సుందర్బన్ నేషనల్ పార్కు  
(D) పెరియర్ నేషనల్ పార్కు

జాబితా - II

(జంతువులు)

- (I) అడవి గాదద  
(II) ఏనుగులు  
(III) ఒక కొమ్ము అధ్యమ్యుగం  
(IV) రాయల్ బెంగాల్ వులులు

క్రింది ఇచ్చిన అచ్చికాల నుండి వలైన జవాయి ఎన్నుకోండి :

- (1) (A)-(II), (B)-(I), (C)-(III), (D)-(IV)  
(2) (A)-(III), (B)-(I), (C)-(IV), (D)-(II)  
(3) (A)-(IV), (B)-(III), (C)-(II), (D)-(I)  
(4) (A)-(IV), (B)-(II), (C)-(I), (D)-(III)

Options :

212807119021-1

212807119022-1

212807119023-3

212807119024-4

Question Number : 271 Question Id : 21280729756 Question Type : MCQ Option Shuffling : No Is Question Mandatory : No Calculator : None  
Response Time : N.A Think Time : N.A Minimum Instruction Time : 0

Correct Marks : 5 Wrong Marks : 1

Question Key Details :

Key	Value
Comprehension	MCQ

سٹ I کولت II سے ملائیں۔

سٹ II

سٹ I

(جانور)

(سنگھری نیشنل پارک)

(I) جنگلی گدھا

(A) کازیرنگی نیشنل پارک

(II) ہاتھی

(B) رن آف کچھ سنگھری

(III) ایک سنگھ و اگینڈا

(C) سندھین نیشنل پارک

(IV) رائل بنگال ٹائیگر

(D) بیھار نیشنل پارک

مندرجہ ذیل میں سے درست جواب کی نشان دہی کریں :

(A)-(II), (B)-(I), (C)-(III), (D)-(IV) (1)

(A)-(III), (B)-(I), (C)-(IV), (D)-(II) (2)

(A)-(IV), (B)-(III), (C)-(II), (D)-(I) (3)

(A)-(IV), (B)-(II), (C)-(I), (D)-(III) (4)

Options :

- 212807119021 1
- 212807119022 2
- 212807119023 3
- 212807119024 4

Question Number : 272 Question Id : 21280729757 Question Type : MCQ Option Shuffling : No Is Question Mandatory : No Calculator : None  
Response Time : N.A Think Time : N.A Minimum Instruction Time : 0

Correct Marks : 5 Wrong Marks : 1

Question Key Details :

Key	Value
Comprehension	MCQ

Out of which Union Territories of India has more than one district ?

- (1) Dadar and Nager Haveli
- (2) Lakshadweep
- (3) Puducheery
- (4) Chandigarh

Options :

- 212807119025 1
- 212807119026 2
- 212807119027 3
- 212807119028 4

Question Number : 272 Question Id : 21280729757 Question Type : MCQ Option Shuffling : No Is Question Mandatory : No Calculator : None  
Response Time : N.A Think Time : N.A Minimum Instruction Time : 0

Correct Marks : 5 Wrong Marks : 1

Question Key Details :

Key	Value
Comprehension	MCQ

भारत के किस संघ राज्य क्षेत्र में एक से अधिक जिला है ?

- (1) दादर और नगर हवेली
- (2) लक्षद्वीप
- (3) पुदुचेरी
- (4) चंडीगढ़

Options :

- 212807119025 1
- 212807119026 2
- 212807119027 3
- 212807119028 4

Question Number : 272 Question Id : 21280729757 Question Type : MCQ Option Shuffling : No Is Question Mandatory : No Calculator : None  
Response Time : N.A Think Time : N.A Minimum Instruction Time : 0

Correct Marks : 5 Wrong Marks : 1

Question Key Details :

Key	Value
Comprehension	MCQ

কম্বো কোনখন কেন্দ্রীয় শাসিত অঞ্চলত এখনতকৈ অধিক জিলা আছে ?

- (1) দাদর আৰু নগৰ হাভেলী
- (2) লক্ষদ্বীপ
- (3) পুডুচেরী
- (4) চণ্ডীগড়

Options :

- 112807119021 1  
112807119026 2  
112807119027 3  
112807119028 4

Question Number : 273 Question Id : 21280729757 Question Type : MCQ Option Shuffling : No Is Question Mandatory : No Calculator : None  
Response Time : N.A Think Time : N.A Minimum Instruction Time : 0

Correct Marks : 5 Wrong Marks : 1

Question Key Details :

Key	Value
Comprehension	MCQ

ভাৰতের কোন কেন্দ্রশাসিত অঞ্চলে একটির বেশি জেলা আছে ?

- (1) দাদরা এবং নগৰ হাভেলি
- (2) লাক্ষদ্বীপ
- (3) পুডুচেরি
- (4) চণ্ডীগড়

Options :

- 112807119025 1  
112807119026 2  
112807119027 3  
112807119028 4

Question Number : 273 Question Id : 21280729757 Question Type : MCQ Option Shuffling : No Is Question Mandatory : No Calculator : None  
Response Time : N.A Think Time : N.A Minimum Instruction Time : 0

Correct Marks : 5 Wrong Marks : 1

Question Key Details :

Key	Value
Comprehension	MCQ

ভাৰতনা গুৱা কেন্দ্ৰশাসিত প্ৰদেশমা অধিক জিলা বহু জিলা গু?

- (1) দাদরা আৰু নগৰ হাভেলী
- (2) লাক্ষদ্বীপ
- (3) পুডুচেরী
- (4) চণ্ডীগড়

Options :

- 112807119021 1  
112807119026 2  
112807119027 3  
112807119028 4

Question Number : 273 Question Id : 21280729757 Question Type : MCQ Option Shuffling : No Is Question Mandatory : No Calculator : None  
Response Time : N.A Think Time : N.A Minimum Instruction Time : 0

Correct Marks : 5 Wrong Marks : 1



Question Key Details :

Key	Value
Comprehension	MCQ

ಭಾರತದ ಕೇಂದ್ರಾಡಳಿತ ಪ್ರದೇಶಗಳಲ್ಲಿ ಯಾವುದು ಒಂದಕ್ಕಿಂತ ಹೆಚ್ಚು ಜಿಲ್ಲೆಯನ್ನು ಹೊಂದಿದೆ ?

- (1) ದಾದರ ಮತ್ತು ನಾಗರ ಹವೇಲಿ
- (2) ಲಕ್ಷದ್ವೀಪ
- (3) ಪುದುಚೇರಿ
- (4) ಚಂಡೀಗಢ

Options :

- 212807119025 1
- 212807119026 2
- 212807119027 3
- 212807119028 4

Question Number : 272 Question Id : 21280719757 Question Type : MCQ Option Shuffling : No Is Question Mandatory : No Calculator : None  
Response Time : N.A Think Time : N.A Minimum Instruction Time : 0

Correct Marks : 5 Wrong Marks : 1

Question Key Details :

Key	Value
Comprehension	MCQ

ಭಾರತದಲ್ಲಿ ಪೂಜಿಸಲ್ಪಡುವ ಕೌಟುಂಬಿಕ ಪ್ರದೇಶಗಳಲ್ಲಿ ಏಕಾಪೇಕ್ಷಾ ಅಧಿಕ ಜಿಲ್ಲೆ ಆಗಿದೆ ?

- (1) ದಾದರ ಮತ್ತು ನಾಗರ ಹವೇಲಿ
- (2) ಲಕ್ಷದ್ವೀಪ
- (3) ಪುದುಚೇರಿ
- (4) ಚಂಡೀಗಢ

Options :

- 212807119025 1
- 212807119026 2
- 212807119027 3
- 212807119028 4

Question Number : 272 Question Id : 21280719757 Question Type : MCQ Option Shuffling : No Is Question Mandatory : No Calculator : None  
Response Time : N.A Think Time : N.A Minimum Instruction Time : 0

Correct Marks : 5 Wrong Marks : 1

Question Key Details :

Key	Value
Comprehension	MCQ

ಒಂದು ಕೃಷಿ ಕ್ಷೇತ್ರದಲ್ಲಿ ಉತ್ಪಾದಿಸಿದ ಒಂದು ಬೀಜದ ಸಂಖ್ಯೆ ಎಷ್ಟು ?

- (1) ಒಂದು ಮತ್ತು ನಾಲ್ಕು
- (2) ಐದು ಮತ್ತು ಹತ್ತು
- (3) ಏಳು ಮತ್ತು ಹದಿನಾರು
- (4) ಹದಿನಾರು ಮತ್ತು ಹದಿನೈದು

Options :

- 212807119025 1
- 212807119026 2
- 212807119027 3
- 212807119028 4

Question Number : 272 Question Id : 21260719757 Question Type : MCQ Option Shuffling : No Is Question Mandatory : No Calculator : None  
Response Time : N.A Think Time : N.A Minimum Instruction Time : 0

Correct Marks : 5 Wrong Marks : 1

Question Key Details :

Key	Value
Comprehension	MCQ

ନିମ୍ନୋକ୍ତରୁ କେଉଁ କେନ୍ଦ୍ରସାଧିତ ପ୍ରଦେଶରେ ଗୋଟିଏରୁ ଅଧିକ ଚିଲି ଅଛି ?

- (1) ଦାଦର ଏବଂ ନଗର ହରେକ୍ଷି
- (2) ଲକ୍ଷ୍ମପୁର
- (3) ପୁରୁଷୋତ୍ତମ
- (4) କୋଣାର୍କ

Options :

21260719025 1

21260719026 2

21260719027 3

21260719028 4

Question Number : 272 Question Id : 21260719757 Question Type : MCQ Option Shuffling : No Is Question Mandatory : No Calculator : None  
Response Time : N.A Think Time : N.A Minimum Instruction Time : 0

Correct Marks : 5 Wrong Marks : 1

Question Key Details :

Key	Value
Comprehension	MCQ

ਹੇਠ ਲਿਖੇ ਵਿਚੋਂ ਭਾਰਤ ਦੇ ਕਿਸ ਕੇਂਦਰ ਸ਼ਾਸਤ ਪ੍ਰਦੇਸ਼ ਵਿੱਚ ਇਕ ਤੋਂ ਵੱਧ ਜਿਲੇ ਹਨ?

- (1) ਦਾਦਰ ਅਤੇ ਨਾਗਰ ਹରେਲੀ
- (2) ਲକ୍ଷਮਦੀਪ
- (3) ਪੁਡੁਚੇਰੀ
- (4) ਚੰਡੀਗੜ੍ਹ

Options :

21260719025 1

21260719026 2

21260719027 3

21260719028 4

Question Number : 273 Question Id : 21260719757 Question Type : MCQ Option Shuffling : No Is Question Mandatory : No Calculator : None  
Response Time : N.A Think Time : N.A Minimum Instruction Time : 0

Correct Marks : 5 Wrong Marks : 1

Question Key Details :

Key	Value
Comprehension	MCQ

இந்தியாவின் எந்த யூனியன் பிரதேசங்களில் ஒன்றுக்கு மேற்பட்ட மாவட்டங்கள் உள்ளன?

- (1) தாதர் மற்றும் நாகர் ஹவேலி
- (2) வடசந்திர்ப்பிரதேசம்
- (3) புதுச்சேரி
- (4) சண்டிகர்

Options :

- 112807119021 1
- 112807119026 2
- 112807119027 3
- 112807119028 4

Question Number : 273 Question Id : 21280729757 Question Type : MCQ Option Shuffling : No Is Question Mandatory : No Calculator : None Response Time : N.A Think Time : N.A Minimum Instruction Time : 0

Correct Marks : 5 Wrong Marks : 1

Question Key Details :

Key	Value
Comprehension	MCQ

ఏ భారత కేంద్రపాలిత ప్రాంతంలో ఒకటి కన్నా ఎక్కువ జిల్లాలున్నాయి ?

- (1) దాదర్ అండ్ నగర్ హవేలీ
- (2) వత్సానగర్
- (3) పుదుచ్చేరి
- (4) చండీఘర్

Options :

- 112807119025 1
- 112807119026 2
- 112807119027 3
- 112807119028 4

Question Number : 273 Question Id : 21280729757 Question Type : MCQ Option Shuffling : No Is Question Mandatory : No Calculator : None Response Time : N.A Think Time : N.A Minimum Instruction Time : 0

Correct Marks : 5 Wrong Marks : 1

Question Key Details :

Key	Value
Comprehension	MCQ

ہندوستان میں مرکز کے ذریعہ انتظام ہوتے ہیں سے کس میں ایک سے زیادہ اضلاع ہیں۔

- (1) دادرا اینڈ ناگروہلی
- (2) لکشہ پ
- (3) پانڈیچیری
- (4) چنڈی گڑھ

Options :

- 112807119025 1
- 112807119026 2

212507119029 3  
212507119029 4

Question Number : 273 Question Id : 21250719755 Question Type : MCQ Option Shuffling : No Is Question Mandatory : No Calculator : None  
Response Time : N.A Think Time : N.A Minimum Instruction Time : 0

Correct Marks : 5 Wrong Marks : 1

Question Key Details :

Key	Value
Comprehension	MCQ

Out of these which is the most abundant metal found in the earth's crust ?

- (1) Copper
- (2) Iron
- (3) Aluminium
- (4) Zinc

Options :

212507119029 1  
212507119030 2  
212507119031 3  
212507119032 4

Question Number : 273 Question Id : 21250719755 Question Type : MCQ Option Shuffling : No Is Question Mandatory : No Calculator : None  
Response Time : N.A Think Time : N.A Minimum Instruction Time : 0

Correct Marks : 5 Wrong Marks : 1

Question Key Details :

Key	Value
Comprehension	MCQ

भू-पर्पटी ( अर्थस क्रस्ट ) में निम्नलिखित में से कौन-सा अधिकांश प्रचुर धातु पाई जाती है ?

- (1) तांबा
- (2) लोहा
- (3) एल्युमीनियम
- (4) जस्ता

Options :

212507119029 1  
212507119030 2  
212507119031 3  
212507119032 4

Question Number : 273 Question Id : 21250719755 Question Type : MCQ Option Shuffling : No Is Question Mandatory : No Calculator : None  
Response Time : N.A Think Time : N.A Minimum Instruction Time : 0

Correct Marks : 5 Wrong Marks : 1

Question Key Details :

Key	Value
Comprehension	MCQ

पृथिवी के अन्तर्गतात् कौनसा धातु प्रचुर परिमाणे उपलब्ध है ?

- (1) ताम्र
- (2) लौ
- (3) एलुमिनियम
- (4) दस्ता (जिंक)

Options :

212507119029 1



Options :

- 212807119029 1
- 212807119030 2
- 212807119031 3
- 212807119032 4

Question Number : 273 Question Id : 21280729758 Question Type : MCQ Option Shuffling : No Is Question Mandatory : No Calculator : None  
Response Time : N.A Think Time : N.A Minimum Instruction Time : 0

Correct Marks : 5 Wrong Marks : 1

Question Key Details :

Key	Value
Comprehension	MCQ

പുരീലപീകോ കോണതാ ചാനു പൃശ്വരോഹ്യാ കവചാത വിപുല പ്രമാണാത അഭച്ഛതോ ?

- (1) താമ്ര
- (2) ലോഹം
- (3) അല്യൂമിനിയം
- (4) ഇങ്ക്

Options :

- 212807119029 1
- 212807119030 2
- 212807119031 3
- 212807119032 4

Question Number : 273 Question Id : 21280729758 Question Type : MCQ Option Shuffling : No Is Question Mandatory : No Calculator : None  
Response Time : N.A Think Time : N.A Minimum Instruction Time : 0

Correct Marks : 5 Wrong Marks : 1

Question Key Details :

Key	Value
Comprehension	MCQ

താഴെ കൊടുത്തിട്ടുള്ളവയിൽ ഭൂമിയുടെ ഉപരിതലത്തിൽ ഏറ്റവും കൂടുതൽ കാണപ്പെടുന്ന ലോഹം ഏത് ?

- (1) ചെമ്പ്
- (2) ഇരുമ്പ്
- (3) അലൂമിനിയം
- (4) സിങ്ക്

Options :

- 212807119029 1
- 212807119030 2
- 212807119031 3
- 212807119032 4

Question Number : 273 Question Id : 21280729758 Question Type : MCQ Option Shuffling : No Is Question Mandatory : No Calculator : None  
Response Time : N.A Think Time : N.A Minimum Instruction Time : 0

Correct Marks : 5 Wrong Marks : 1

Question Key Details :

Key	Value
Comprehension	MCQ

ନିମ୍ନୋକ୍ତ ରେଖି ଧାତୁଟି ପୃଷ୍ଠତାତ୍ତ୍ୱ ବାହ୍ୟାବରଣରେ ଯଦାୟତ ପ୍ରଭୃତ ମାତ୍ରାରେ ମିଳିଥାଏ ?

- (1) ଟାଙ୍ଗ
- (2) ଲୁହା
- (3) ପାଲୁମିନିୟମ
- (4) ରଘା (ଚିଲ)

Options :

- 212807119029 1
- 212807119030 2
- 212807119031 3
- 212807119032 4

Question Number : 273 Question Id : 21280729758 Question Type : MCQ Option Shuffling : No Is Question Mandatory : No Calculator : None  
Response Time : N.A Think Time : N.A Minimum Instruction Time : 0

Correct Marks : 5 Wrong Marks : 1

Question Key Details :

Key	Value
Comprehension	MCQ

ਇਹਨਾਂ ਵਿੱਚੋਂ ਕਿਹੜੀ ਧਰਤੀ ਦੀ ਖਰਤ ਵਿਚ ਭਰਪੂਰ ਧਾਤੂ ਪਾਈ ਜਾਂਦੀ ਹੈ?

- (1) ਕਾੱਪਰ
- (2) ਆਇਰਨ
- (3) ਐਲੂਮੀਨੀਅਮ
- (4) ਜਿੰਕ

Options :

- 212807119029 1
- 212807119030 2
- 212807119031 3
- 212807119032 4

Question Number : 273 Question Id : 21280729758 Question Type : MCQ Option Shuffling : No Is Question Mandatory : No Calculator : None  
Response Time : N.A Think Time : N.A Minimum Instruction Time : 0

Correct Marks : 5 Wrong Marks : 1

Question Key Details :

Key	Value
Comprehension	MCQ

இவற்றில் பூமியின் மேலோட்டில் மிகுதியாகக் காணப்படும் உலோகம் எது?

- (1) செம்பு
- (2) இரும்பு
- (3) அலுமினியம்
- (4) துத்தநாகம்

Options :

- 212807119029 1
- 212807119030 2
- 212807119031 3
- 212807119032 4

Question Number : 273 Question Id : 21280729758 Question Type : MCQ Option Shuffling : No Is Question Mandatory : No Calculator : None  
Response Time : N.A Think Time : N.A Minimum Instruction Time : 0

Correct Marks : 5 Wrong Marks : 1

Question Key Details :

Key	Value
Comprehension	MCQ

భూమి పై పౌరలలో విరివిగా లభించు లోహం ఏది ?

- (1) కాపర్
- (2) ఐరన్
- (3) అల్యూమినియం
- (4) టింక్

Options :

212907119029 : 1  
212907119030 : 2  
212907119031 : 3  
212907119032 : 4

Question Number : 273 Question Id : 21290719758 Question Type : MCQ Option Shuffling : No Is Question Mandatory : No Calculator : None  
Response Time : N.A Think Time : N.A Minimum Instruction Time : 0

Correct Marks : 5 Wrong Marks : 1

Question Key Details :

Key	Value
Comprehension	MCQ

زمین کی سطح میں سب سے زیادہ مقدار میں پایا جانے والا اوجحات کون سا ہے ؟

- (1) تانبا
- (2) لوہا
- (3) الومینیم
- (4) زنک

Options :

212907119029 : 1  
212907119030 : 2  
212907119031 : 3  
212907119032 : 4

Question Number : 274 Question Id : 21290719759 Question Type : MCQ Option Shuffling : No Is Question Mandatory : No Calculator : None  
Response Time : N.A Think Time : N.A Minimum Instruction Time : 0

Correct Marks : 5 Wrong Marks : 1

Question Key Details :

Key	Value
Comprehension	MCQ

Article 21A of the constitution deals with right to education. According to which constitution amendment the article has been inserted ?

- (1) 42<sup>nd</sup>
- (2) 44<sup>th</sup>
- (3) 96<sup>th</sup>
- (4) 86<sup>th</sup>

Options :

212907119033 : 1  
212907119034 : 2



212507119033 3  
212507119034 4

Question Number : 274 Question Id : 21280719759 Question Type : MCQ Option Shuffling : No Is Question Mandatory : No Calculator : None  
Response Time : N.A Think Time : N.A Minimum Instruction Time : 0

Correct Marks : 5 Wrong Marks : 1

Question Key Details :

Key	Value
Comprehension	MCQ

भारतीय संविधान का अनुच्छेद 21ए शिक्षा के अधिकार से संबंधित है। किस संविधानिक संशोधन द्वारा इस अनुच्छेद को जोड़ा गया है ?

- (1) 42वां
- (2) 44वां
- (3) 96वां
- (4) 86वां

Options :

212507119033 3  
212507119034 4  
212507119035 3  
212507119036 4

Question Number : 274 Question Id : 21280719759 Question Type : MCQ Option Shuffling : No Is Question Mandatory : No Calculator : None  
Response Time : N.A Think Time : N.A Minimum Instruction Time : 0

Correct Marks : 5 Wrong Marks : 1

Question Key Details :

Key	Value
Comprehension	MCQ

সংবিধানৰ অনুচ্ছেদ 21A হৈ শিক্ষাৰ অধিকাৰৰ বিষয়ে কয়। কোনখন সংবিধান সংশোধনীৰে, অনুচ্ছেদটো ভৰোৱা হৈছিল ?

- (1) 42 তম
- (2) 44 তম
- (3) 96 তম
- (4) 86 তম

Options :

212507119033 3  
212507119034 4  
212507119035 3  
212507119036 4

Question Number : 274 Question Id : 21280719759 Question Type : MCQ Option Shuffling : No Is Question Mandatory : No Calculator : None  
Response Time : N.A Think Time : N.A Minimum Instruction Time : 0

Correct Marks : 5 Wrong Marks : 1

Question Key Details :

Key	Value
Comprehension	MCQ

સંવિધાને 21A થારા શિક્ષણ અધિકાર સમ્પર્કિત કોન સંવિધાન સંશોધની અનુસારે થારાટિ સમિલેશિત કરા હરોલે ?

- (1) 42 તમ
- (2) 44 તમ
- (3) 96 તમ
- (4) 86 તમ

Options :

- 112807119033 1
- 112807119034 1
- 112807119035 3
- 112807119036 4

Question Number : 274 Question Id : 11280729759 Question Type : MCQ Option Shuffling : No Is Question Mandatory : No Calculator : None  
Response Time : N.A Think Time : N.A Minimum Instruction Time : 0

Correct Marks : 5 Wrong Marks : 1

Question Key Details :

Key	Value
Comprehension	MCQ

બંધારણની અનુચ્છેદ 21 A શિક્ષણના અધિકારો સાથે સંબંધિત છે તે અનુસંધાનનો કયા બંધારણીય સુધારા માટે સૂચના આપવામાં આવી છે?

- (1) 42<sup>nd</sup>
- (2) 44<sup>th</sup>
- (3) 96<sup>th</sup>
- (4) 86<sup>th</sup>

Options :

- 112807119033 1
- 112807119034 1
- 112807119035 3
- 112807119036 4

Question Number : 274 Question Id : 11280729759 Question Type : MCQ Option Shuffling : No Is Question Mandatory : No Calculator : None  
Response Time : N.A Think Time : N.A Minimum Instruction Time : 0

Correct Marks : 5 Wrong Marks : 1

Question Key Details :

Key	Value
Comprehension	MCQ

સંવિધાનના અર્ટિકલ 21A યુનાવર્ણીય ઠક્કી સંબંધિત છે. સંવિધાનના યુનાવર્ણીય ઠક્કી સંબંધિત ઠક્કી સંવિધાનના અર્ટિકલનું ઠક્કી સંબંધિત છે ?

- (1) 42<sup>nd</sup>
- (2) 44<sup>th</sup>
- (3) 96<sup>th</sup>
- (4) 86<sup>th</sup>

Options :

- 112807119033 1
- 112807119034 1
- 112807119035 3
- 112807119036 4

Question Number : 274 Question Id : 11280729759 Question Type : MCQ Option Shuffling : No Is Question Mandatory : No Calculator : None  
Response Time : N.A Think Time : N.A Minimum Instruction Time : 0

Correct Marks : 5 Wrong Marks : 1

Question Key Details :

Key	Value
Comprehension	MCQ

राज्य घटनेतील अनुच्छेद 21A मध्ये शिक्षणाच्या हक्काची तरतूद करण्यात आली आहे. कितव्या घटनादुरुस्ती अन्वये हा अनुच्छेद घटनेत समाविष्ट करण्यात आला ?

- (1) 42<sup>वा</sup>
- (2) 44<sup>वा</sup>
- (3) 96<sup>वा</sup>
- (4) 86<sup>वा</sup>

Options :

- 212807119033 1  
212807119034 2  
212807119035 3  
212807119036 4

Question Number : 274 Question Id : 21280719759 Question Type : MCQ Option Shuffling : No Is Question Mandatory : No Calculator : None Response Time : N.A Think Time : N.A Minimum Instruction Time : 0

Correct Marks : 5 Wrong Marks : 1

Question Key Details :

Key	Value
Comprehension	MCQ

ഇന്ത്യൻ ഭരണഘടനയുടെ ആർട്ടിക്കിൾ 21A വിദ്യാഭ്യാസത്തിനുള്ള അവകാശവുമായി ബന്ധപ്പെട്ടിരിക്കുന്നു. ഏതാമത്തെ ഭരണഘടനാ ഭേദഗതി പ്രകാരമാണ് ഈ ആർട്ടിക്കിൾ കൂട്ടിച്ചേർക്കപ്പെട്ടത് ?

- (1) 42<sup>nd</sup>
- (2) 44<sup>th</sup>
- (3) 96<sup>th</sup>
- (4) 86<sup>th</sup>

Options :

- 212807119033 1  
212807119034 2  
212807119035 3  
212807119036 4

Question Number : 274 Question Id : 21280719759 Question Type : MCQ Option Shuffling : No Is Question Mandatory : No Calculator : None Response Time : N.A Think Time : N.A Minimum Instruction Time : 0

Correct Marks : 5 Wrong Marks : 1

Question Key Details :

Key	Value
Comprehension	MCQ

ଓଡ଼ିଶାରେ ଅନୁଚ୍ଛେଦ 21A ଭିତ୍ତରେ ଅଧିକାରକୁ ବ୍ୟାପ୍ୟ କରେ । କେଉଁ ଓଡ଼ିଶାରେ ସଂଶୋଧନ ଅନୁସାରେ ଏହି ଅନୁଚ୍ଛେଦକୁ ପୁରା ପାଇଁ ?

- (1) 42 ଚଳ
- (2) 44 ଚଳ
- (3) 96 ଚଳ
- (4) 86 ଚଳ

Options :

- 212807119033 1
- 212807119034 2
- 212807119035 3
- 212807119036 4

Question Number : 274 Question Id : 21280729759 Question Type : MCQ Option Shuffling : No Is Question Mandatory : No Calculator : None  
Response Time : N.A Think Time : N.A Minimum Instruction Time : 0

Correct Marks : 5 Wrong Marks : 1

Question Key Details :

Key	Value
Comprehension	MCQ

ਸੰਵਿਧਾਨ ਦੀ ਧਾਰਾ 21 A ਚੋਣ ਦੇ ਅਧਿਕਾਰ ਨਾਲ ਸਬੰਧਿਤ ਹੈ ਕਿਸ ਦੇ ਅਨੁਸਾਰ ਸੰਵਿਧਾਨ ਵਿਚ ਸੋਧ ਲਈ ਨਿਰਦੇਸ਼ ਦਿੱਤੇ ਹਨ?

- (1) 42 ਵਾਂ
- (2) 44 ਵਾਂ
- (3) 96 ਵਾਂ
- (4) 86 ਵਾਂ

Options :

- 212807119033 1
- 212807119034 2
- 212807119035 3
- 212807119036 4

Question Number : 274 Question Id : 21280729759 Question Type : MCQ Option Shuffling : No Is Question Mandatory : No Calculator : None  
Response Time : N.A Think Time : N.A Minimum Instruction Time : 0

Correct Marks : 5 Wrong Marks : 1

Question Key Details :

Key	Value
Comprehension	MCQ

ਅਰਥਿਯਲਯਮਾਮਪਿੰਨ 21 A ਯੁਪੁਰਾ ਕਲੰਭਿ ਪੇਰੁਮ ਯੁਰਿਮਾਯਯਪ ਪਹੁੰਰਿਕ ਕੁਰੁਕਿਰੁਠੁ. ਯਨੁਕ ਅਰਥਿਯਲਯਮਾਮਪਿੰਨੁ ਤਿਰੁਕੁਕੁਤਿੰਨੁਪਾਯੁ ਇੰਪਿਰਿਯੁ ਖੋਰੁਕੁਕੁਪੁਪੁੰਨੁ ਯੁਗੁਠੁ?

- (1) 42
- (2) 44
- (3) 96
- (4) 86

Options :

- 212807119033 1
- 212807119034 2
- 212807119035 3
- 212807119036 4

Question Number : 274 Question Id : 21280729759 Question Type : MCQ Option Shuffling : No Is Question Mandatory : No Calculator : None  
Response Time : N.A Think Time : N.A Minimum Instruction Time : 0

Correct Marks : 5 Wrong Marks : 1

Question Key Details :

Key	Value
Comprehension	MCQ

భారత రాజ్యాంగ ఆర్టికల్ 21 A విద్యా హక్కుని గురించి. కింది ఏ రాజ్యాంగ సవరణ ద్వారా చేర్చబడింది ?

- (1) 42వ
- (2) 44వ
- (3) 96వ
- (4) 86వ

Options :

- 212907119033 1
- 212907119034 2
- 212907119035 3
- 212907119036 4

Question Number : 274 Question Id : 21280729759 Question Type : MCQ Option Shuffling : No Is Question Mandatory : No Calculator : None  
Response Time : N.A Think Time : N.A Minimum Instruction Time : 0

Correct Marks : 5 Wrong Marks : 1

Question Key Details :

Key	Value
Comprehension	MCQ

دستور ہند کا آرٹیکل 21 A جن تعلیم سے متعلق ہے اس آرٹیکل کو کس ترمیم کے ذریعہ دستور میں ڈالا گیا ہے ؟

- (1) 42 ویں
- (2) 44 ویں
- (3) 96 ویں
- (4) 86 ویں

Options :

- 212807119033 1
- 212807119034 2
- 212807119035 3
- 212807119036 4

Question Number : 275 Question Id : 21280729760 Question Type : MCQ Option Shuffling : No Is Question Mandatory : No Calculator : None  
Response Time : N.A Think Time : N.A Minimum Instruction Time : 0

Correct Marks : 5 Wrong Marks : 1

Question Key Details :

Key	Value
Comprehension	MCQ

Which constitutional amendment incorporated the fundamental duties in the constitution of India ?

- (1) 41<sup>st</sup>
- (2) 42<sup>nd</sup>
- (3) 43<sup>rd</sup>
- (4) 44<sup>th</sup>

Options :

- 212807119037 1
- 212907119038 2
- 212807119039 3
- 212807119040 4

Question Number : 275 Question Id : 21280719760 Question Type : MCQ Option Shuffling : No Is Question Mandatory : No Calculator : None  
Response Time : N.A Think Time : N.A Minimum Instruction Time : 0

Correct Marks : 5 Wrong Marks : 1

Question Key Details :

Key	Value
Comprehension	MCQ

निम्नलिखित में से किस संवैधानिक संशोधन ने भारत के संविधान में मूल कर्तव्यों को समावेशित किया था ?

- (1) 41वाँ
- (2) 42वाँ
- (3) 43वाँ
- (4) 44वाँ

Options :

212807119037 1

212807119038 2

212807119039 3

212807119040 4

Question Number : 275 Question Id : 21280719760 Question Type : MCQ Option Shuffling : No Is Question Mandatory : No Calculator : None  
Response Time : N.A Think Time : N.A Minimum Instruction Time : 0

Correct Marks : 5 Wrong Marks : 1

Question Key Details :

Key	Value
Comprehension	MCQ

कौनसे संविधान संशोधनीयें भारतीय संविधानमें मौलिक कर्तव्यसमूह अस्तित्वमें करिहिन ?

- (1) 41 तम
- (2) 42 तम
- (3) 43 तम
- (4) 44 तम

Options :

212807119037 1

212807119038 2

212807119039 3

212807119040 4

Question Number : 275 Question Id : 21280719760 Question Type : MCQ Option Shuffling : No Is Question Mandatory : No Calculator : None  
Response Time : N.A Think Time : N.A Minimum Instruction Time : 0

Correct Marks : 5 Wrong Marks : 1

Question Key Details :

Key	Value
Comprehension	MCQ

भारतीय संविधानमें मौलिक कर्तव्यसमूहके कौनसे संविधान संशोधनीयें माथामें अस्तित्वमें करा हयैहै ?

- (1) 41 तम
- (2) 42 तम
- (3) 43 तम
- (4) 44 तम

Options :

212807119037 1

212807119038 2

212507119039 3  
212507119040 4

Question Number : 175 Question Id : 21280719760 Question Type : MCQ Option Shuffling : No Is Question Mandatory : No Calculator : None  
Response Time : N.A Think Time : N.A Minimum Instruction Time : 0

Correct Marks : 5 Wrong Marks : 1

Question Key Details :

Key	Value
Comprehension	MCQ

नीचे आपेलानां(धी) कर्ष अंधारणीय निर्देशीत भूणभूत करले छे?

- (1) 41<sup>st</sup>
- (2) 42<sup>nd</sup>
- (3) 43<sup>rd</sup>
- (4) 44<sup>th</sup>

Options :

212507119039 1  
212507119038 2  
212507119039 3  
212507119040 4

Question Number : 175 Question Id : 21280719760 Question Type : MCQ Option Shuffling : No Is Question Mandatory : No Calculator : None  
Response Time : N.A Think Time : N.A Minimum Instruction Time : 0

Correct Marks : 5 Wrong Marks : 1

Question Key Details :

Key	Value
Comprehension	MCQ

कैरुणिकवृणुगणु यरवुतु सनुतुधरुतुतु तुतुलतुतुतु कुरुतुतुतुतु तुतुतुतुतुतुतु ?

- (1) 41<sup>st</sup>
- (2) 42<sup>nd</sup>
- (3) 43<sup>rd</sup>
- (4) 44<sup>th</sup>

Options :

212507119039 1  
212507119038 2  
212507119039 3  
212507119040 4

Question Number : 175 Question Id : 21280719760 Question Type : MCQ Option Shuffling : No Is Question Mandatory : No Calculator : None  
Response Time : N.A Think Time : N.A Minimum Instruction Time : 0

Correct Marks : 5 Wrong Marks : 1

Question Key Details :

Key	Value
Comprehension	MCQ

कितुवुतु घुतुनरुतुतु अतुवुतु ररुतुतु घुतुनेतु तुतुलतुतु कुरुतुतुतुतु सतुतुतुतु करणुतुतु अरुतु ?

- (1) 41<sup>st</sup>
- (2) 42<sup>nd</sup>
- (3) 43<sup>rd</sup>
- (4) 44<sup>th</sup>

Options :

212507119039 1  
212507119038 2

212507119039 3  
212507119040 4

Question Number : 275 Question Id : 21250719760 Question Type : MCQ Option Shuffling : No Is Question Mandatory : No Calculator : None  
Response Time : N.A Think Time : N.A Minimum Instruction Time : 0  
Correct Marks : 5 Wrong Marks : 1

Question Key Details :

Key	Value
Comprehension	MCQ

എത്രമാത്രം ഭരണഘടനാ മരുദന്മാർ പ്രകാരമാണ് നവലിംഗ കർമ്മവൃന്ദങ്ങൾ ഇന്ത്യൻ ഭരണഘടനയിൽ കുടിയേറ്റം ചെയ്തത് ?

- (1) 41<sup>st</sup>
- (2) 42<sup>nd</sup>
- (3) 43<sup>rd</sup>
- (4) 44<sup>th</sup>

Options :

212507119039 1  
212507119039 2  
212507119039 3  
212507119040 4

Question Number : 275 Question Id : 21250719760 Question Type : MCQ Option Shuffling : No Is Question Mandatory : No Calculator : None  
Response Time : N.A Think Time : N.A Minimum Instruction Time : 0  
Correct Marks : 5 Wrong Marks : 1

Question Key Details :

Key	Value
Comprehension	MCQ

ഭരണഘടനാ മരുദന്മാർ പ്രകാരമാണ് നവലിംഗ കർമ്മവൃന്ദങ്ങൾ ഇന്ത്യൻ ഭരണഘടനയിൽ കുടിയേറ്റം ചെയ്തത് ?

- (1) 41<sup>st</sup>
- (2) 42<sup>nd</sup>
- (3) 43<sup>rd</sup>
- (4) 44<sup>th</sup>

Options :

212507119039 1  
212507119039 2  
212507119039 3  
212507119040 4

Question Number : 275 Question Id : 21250719760 Question Type : MCQ Option Shuffling : No Is Question Mandatory : No Calculator : None  
Response Time : N.A Think Time : N.A Minimum Instruction Time : 0  
Correct Marks : 5 Wrong Marks : 1

Question Key Details :

Key	Value
Comprehension	MCQ



ਹੇਠ ਲਿਖਿਆ ਵਿੱਚੋਂ ਕਿਹੜਾ ਸੰਵਿਧਾਨਕ ਬੁਨਿਆਦੀ ਕਰਤਵਿੱਚ ਨੂੰ ਨਿਰਦੇਸ਼ਿਤ ਕਰਦਾ ਹੈ?

- (1) 41 ਵਾਂ
- (2) 42 ਵਾਂ
- (3) 43 ਵਾਂ
- (4) 44 ਵਾਂ

Options :

- 212807119037 1  
212807119038 2  
212807119039 3  
212807119040 4

Question Number : 175 Question Id : 21280719760 Question Type : MCQ Option Shuffling : No Is Question Mandatory : No Calculator : None  
Response Time : N.A Think Time : N.A Minimum Instruction Time : 0

Correct Marks : 5 Wrong Marks : 1

Question Key Details :

Key	Value
Comprehension	MCQ

இந்திய அரசியலமைப்பில் அடிப்படைக் கடமைகளை உள்ளடக்கிய அரசியலமைப்புத் திருத்தம் எது?

- (1) 41st
- (2) 42nd
- (3) 43rd
- (4) 44th

Options :

- 212807119037 1  
212807119038 2  
212807119039 3  
212807119040 4

Question Number : 175 Question Id : 21280719760 Question Type : MCQ Option Shuffling : No Is Question Mandatory : No Calculator : None  
Response Time : N.A Think Time : N.A Minimum Instruction Time : 0

Correct Marks : 5 Wrong Marks : 1

Question Key Details :

Key	Value
Comprehension	MCQ

કેન્દ્રી વાલીશીલે ષે રાજ્યાંગ સવરણ પ્રાથમિક વેધુલનુ ડેલુકુન્ડી ?

- (1) 41వ
- (2) 42వ
- (3) 43వ
- (4) 44వ

Options :

- 212807119037 1  
212807119038 2  
212807119039 3  
212807119040 4

Question Number : 275 Question Id : 21280719760 Question Type : MCQ Option Shuffling : No Is Question Mandatory : No Calculator : None  
Response Time : N.A Think Time : N.A Minimum Instruction Time : 0

Correct Marks : 5 Wrong Marks : 1

Question Key Details :

Key	Value
Comprehension	MCQ

کس دستوری ترمیم کے ذریعہ بنیادی فرائض کو دستور بڑھکا جا رہا ہے ؟

(1) 41 ویں

(2) 42 ویں

(3) 43 ویں

(4) 44 ویں

Options :

212807119037 1

212807119038 2

212807119039 3

212807119040 4

Question Number : 276 Question Id : 21280719761 Question Type : MCQ Option Shuffling : No Is Question Mandatory : No Calculator : None  
Response Time : N.A Think Time : N.A Minimum Instruction Time : 0

Correct Marks : 5 Wrong Marks : 1

Question Key Details :

Key	Value
Comprehension	MCQ

How many languages are there in the 8<sup>th</sup> Schedule of the Indian Constitution ?

(1) 18

(2) 21

(3) 22

(4) 20

Options :

212807119041 1

212807119042 2

212807119043 3

212807119044 4

Question Number : 278 Question Id : 21280719761 Question Type : MCQ Option Shuffling : No Is Question Mandatory : No Calculator : None  
Response Time : N.A Think Time : N.A Minimum Instruction Time : 0

Correct Marks : 5 Wrong Marks : 1

Question Key Details :

Key	Value
Comprehension	MCQ

भारतीय संविधान की हवीं अनुसूची में कितनी भाषाएं हैं ?

(1) 18

(2) 21

(3) 22

(4) 20

Options :

212807119041 1

212807119042 2

212807119043 3

212807119044\_4

Question Number : 276 Question Id : 21280719761 Question Type : MCQ Option Shuffling : No Is Question Mandatory : No Calculator : None  
Response Time : N.A Think Time : N.A Minimum Instruction Time : 0  
Correct Marks : 5 Wrong Marks : 1

Question Key Details :

Key	Value
Comprehension	MCQ

ভারতীয় সংবিধানের ৪ নম্বর সূচী মতে কেইটা ভাষা আছে ?

- (1) 18
- (2) 21
- (3) 22
- (4) 20

Options :

- 212807119041\_1  
212807119042\_2  
212807119043\_3  
212807119044\_4

Question Number : 276 Question Id : 21280719761 Question Type : MCQ Option Shuffling : No Is Question Mandatory : No Calculator : None  
Response Time : N.A Think Time : N.A Minimum Instruction Time : 0  
Correct Marks : 5 Wrong Marks : 1

Question Key Details :

Key	Value
Comprehension	MCQ

ভারতীয় সংবিধানের অষ্টম তালিকায় কতগুলি ভাষা আছে ?

- (1) 18
- (2) 21
- (3) 22
- (4) 20

Options :

- 212807119041\_1  
212807119042\_2  
212807119043\_3  
212807119044\_4

Question Number : 276 Question Id : 21280719761 Question Type : MCQ Option Shuffling : No Is Question Mandatory : No Calculator : None  
Response Time : N.A Think Time : N.A Minimum Instruction Time : 0  
Correct Marks : 5 Wrong Marks : 1

Question Key Details :

Key	Value
Comprehension	MCQ

ভারতীয় পঞ্চায়েত অনুসূচি ৪ মাঁ ঠেতলী ভাষাত্যো ঠে?

- (1) 18
- (2) 21
- (3) 22
- (4) 20

Options :

- 212807119041\_1  
212807119042\_2  
212807119043\_3  
212807119044\_4

Question Number : 276 Question Id : 21280719761 Question Type : MCQ Option Shuffling : No Is Question Mandatory : No Calculator : None  
Response Time : N.A Think Time : N.A Minimum Instruction Time : 0

Correct Marks : 5 Wrong Marks : 1

Question Key Details :

Key	Value
Comprehension	MCQ

ಭಾರತ ಸಂವಿಧಾನದ 8ನೇ ಶೆಡ್ಯೂಲ್‌ನಲ್ಲಿ ಎಷ್ಟು ಭಾಷೆಗಳಿವೆ ?

- (1) 18
- (2) 21
- (3) 22
- (4) 20

Options :

212807119041 1

212807119042 2

212807119043 3

212807119044 4

Question Number : 276 Question Id : 21280719761 Question Type : MCQ Option Shuffling : No Is Question Mandatory : No Calculator : None  
Response Time : N.A Think Time : N.A Minimum Instruction Time : 0

Correct Marks : 5 Wrong Marks : 1

Question Key Details :

Key	Value
Comprehension	MCQ

भारतीय राज्य घटनेच्या आठव्या परिशिष्टाल एकूण किती भाषा आहेत?

- (1) 18
- (2) 21
- (3) 22
- (4) 20

Options :

212807119041 1

212807119042 2

212807119043 3

212807119044 4

Question Number : 276 Question Id : 21280719761 Question Type : MCQ Option Shuffling : No Is Question Mandatory : No Calculator : None  
Response Time : N.A Think Time : N.A Minimum Instruction Time : 0

Correct Marks : 5 Wrong Marks : 1

Question Key Details :

Key	Value
Comprehension	MCQ

ഇന്ത്യൻ അണുഘടനയുടെ 8 -ാം പട്ടികയിൽ എത്ര ഭാഷകളാണ് ഉൾപ്പെടുത്തിയിട്ടുള്ളത് ?

- (1) 18
- (2) 21
- (3) 22
- (4) 20

Options :

212807119041 1

212807119042 2

212807119043 3

212807119044 4

Question Number : 176 Question Id : 21280719761 Question Type : MCQ Option Shuffling : No Is Question Mandatory : No Calculator : None  
Response Time : N.A Think Time : N.A Minimum Instruction Time : 0

Correct Marks : 5 Wrong Marks : 1

Question Key Details :

Key	Value
Comprehension	MCQ

ଘରର ସମ୍ପୂର୍ଣ୍ଣ ଅଞ୍ଚଳ ଘଣ୍ଟାଘୂରଣର କେତେ ପୁରାଣ ଗଠା ରହିଛି ?

- (1) 18
- (2) 21
- (3) 22
- (4) 20

Options :

212807119041 1

212807119042 2

212807119043 3

212807119044 4

Question Number : 176 Question Id : 21280719761 Question Type : MCQ Option Shuffling : No Is Question Mandatory : No Calculator : None  
Response Time : N.A Think Time : N.A Minimum Instruction Time : 0

Correct Marks : 5 Wrong Marks : 1

Question Key Details :

Key	Value
Comprehension	MCQ

ਭਾਰਤ ਦੇ ਅਠਵੇਂ ਸੰਵਿਧਾਨਿਕ ਦਾਂਚੇ ਵਿਚ ਕਿੰਨੀਆਂ ਭਾਸ਼ਾਵਾਂ ਸਨ?

- (1) 18
- (2) 21
- (3) 22
- (4) 20

Options :

212807119041 1

212807119042 2

212807119043 3

212807119044 4

Question Number : 176 Question Id : 21280719761 Question Type : MCQ Option Shuffling : No Is Question Mandatory : No Calculator : None  
Response Time : N.A Think Time : N.A Minimum Instruction Time : 0

Correct Marks : 5 Wrong Marks : 1

Question Key Details :

Key	Value
Comprehension	MCQ

இந்திய அரசியலமைப்பின் 8 அட்டவணையில் எத்தனை மொழிகள் உள்ளன?

- (1) 18
- (2) 21
- (3) 22
- (4) 20

Options :

212807119041 1

212807119042 2

212807119043 3

212807119044 4

Question Number : 276 Question Id : 21280729761 Question Type : MCQ Option Shuffling : No Is Question Mandatory : No Calculator : None  
Response Time : N.A Think Time : N.A Minimum Instruction Time : 0

Correct Marks : 5 Wrong Marks : 1

Question Key Details :

Key	Value
Comprehension	MCQ

ਫ਼ਾਰਥ ਰਾਜਯੋਗ 8ਵੇਂ ਸੈਕਸ਼ਨ ਵਿੱਚ ਦਿੱਤੀ ਘੋਸ਼ਣਾ ਕੀ ਹੈ ?

- (1) 18
- (2) 21
- (3) 22
- (4) 20

Options :

212807119041 1

212807119042 2

212807119043 3

212807119044 4

Question Number : 276 Question Id : 21280729761 Question Type : MCQ Option Shuffling : No Is Question Mandatory : No Calculator : None  
Response Time : N.A Think Time : N.A Minimum Instruction Time : 0

Correct Marks : 5 Wrong Marks : 1

Question Key Details :

Key	Value
Comprehension	MCQ

دستور ہند کی آٹھویں شیڈول میں کتنی زبانوں کا ذکر ہے ؟

- 18 (1)
- 21 (2)
- 22 (3)
- 20 (4)

Options :

212807119041 1

212807119042 2

212807119043 3

212807119044 4

Question Number : 277 Question Id : 21280729762 Question Type : MCQ Option Shuffling : No Is Question Mandatory : No Calculator : None  
Response Time : N.A Think Time : N.A Minimum Instruction Time : 0

Correct Marks : 5 Wrong Marks : 1

Question Key Details :

Key	Value
Comprehension	MCQ

Who has written the book "Gitanjali" ?

- (1) Premchand
- (2) Sharad Chand Chattopadyay
- (3) Rabindranath Tagore
- (4) Mahatma Gandhi

Options :

212807119041 1

212807119042 2

212507119047.3  
212507119048.4

Question Number : 277 Question Id : 21250729762 Question Type : MCQ Option Shuffling : No Is Question Mandatory : No Calculator : None  
Response Time : N.A Think Time : N.A Minimum Instruction Time : 0  
Correct Marks : 5 Wrong Marks : 1

Question Key Details :

Key	Value
Comprehension	MCQ

“गीतांजलि” पुस्तक का लेखक कौन है ?

- (1) प्रेमचंद
- (2) शरद चंद्र चट्टोपाध्याय
- (3) रवीन्द्र नाथ टैगोर
- (4) महात्मा गाँधी

Options :

212507119045.1  
212507119046.2  
212507119047.3  
212507119048.4

Question Number : 277 Question Id : 21250729762 Question Type : MCQ Option Shuffling : No Is Question Mandatory : No Calculator : None  
Response Time : N.A Think Time : N.A Minimum Instruction Time : 0

Correct Marks : 5 Wrong Marks : 1

Question Key Details :

Key	Value
Comprehension	MCQ

“गीतांजलि” कित्तापवन कोने लिबिद्धिले ?

- (1) प्रेमचंद
- (2) शरद चंद्र चट्टोपाध्याय
- (3) रवीन्द्रनाथ ठाकुर
- (4) महात्मा गाँधी

Options :

212507119045.1  
212507119046.2  
212507119047.3  
212507119048.4

Question Number : 277 Question Id : 21250729762 Question Type : MCQ Option Shuffling : No Is Question Mandatory : No Calculator : None  
Response Time : N.A Think Time : N.A Minimum Instruction Time : 0

Correct Marks : 5 Wrong Marks : 1

Question Key Details :

Key	Value
Comprehension	MCQ

“गीतांजलि” कइति के लिख्छेन ?

- (1) प्रेमचंद
- (2) शरद चंद्र चट्टोपाध्याय
- (3) रवीन्द्रनाथ ठाकुर
- (4) महात्मा गाँधी

Options :

- 212807119045 1
- 212807119046 2
- 212807119047 3
- 212807119048 4

Question Number : 277 Question Id : 21280729762 Question Type : MCQ Option Shuffling : No Is Question Mandatory : No Calculator : None  
Response Time : N.A Think Time : N.A Minimum Instruction Time : 0

Correct Marks : 5 Wrong Marks : 1

Question Key Details :

Key	Value
Comprehension	MCQ

“गीतगोवली” (“Gitanjali”) पुस्तक कोशे कानी हली?

- (1) प्रेमचंद
- (2) शरदचंद्र अड्डापाठ्याय
- (3) रविन्द्रनाथ टागोर
- (4) महात्मा गांधी

Options :

- 212807119045 1
- 212807119046 2
- 212807119047 3
- 212807119048 4

Question Number : 277 Question Id : 21280729762 Question Type : MCQ Option Shuffling : No Is Question Mandatory : No Calculator : None  
Response Time : N.A Think Time : N.A Minimum Instruction Time : 0

Correct Marks : 5 Wrong Marks : 1

Question Key Details :

Key	Value
Comprehension	MCQ

‘गिरजाबली’ पुस्तककान्नु बरिदकवतु क्कारु ?

- (1) प्रेमचंद
- (2) शरदचंद्र अड्डापाठ्याय
- (3) रविन्द्रनाथ टागोर
- (4) महात्मा गांधी

Options :

- 212807119045 1
- 212807119046 2
- 212807119047 3
- 212807119048 4

Question Number : 277 Question Id : 21280729762 Question Type : MCQ Option Shuffling : No Is Question Mandatory : No Calculator : None  
Response Time : N.A Think Time : N.A Minimum Instruction Time : 0

Correct Marks : 5 Wrong Marks : 1

Question Key Details :

Key	Value
Comprehension	MCQ



“गितांजली” या पुस्तकाने लेखक कोण?

- (1) प्रेमचंद
- (2) शरदचंद खटीपाध्ये
- (3) रवींद्रनाथ टागोर
- (4) महात्मा गांधी

Options :

- 212807119045 1
- 212807119046 2
- 212807119047 3
- 212807119048 4

Question Number : 277 Question Id : 21280729762 Question Type : MCQ Option Shuffling : No Is Question Mandatory : No Calculator : None  
Response Time : N.A Think Time : N.A Minimum Instruction Time : 0

Correct Marks : 5 Wrong Marks : 1

Question Key Details :

Key	Value
Comprehension	MCQ

‘गीतांजली’ എന്ന പുസ്തകം എഴുതിയതാരാണ് ?

- (1) പ്രേമചന്ദ
- (2) ശരത് ചന്ദ് ചന്തോപാധ്യായ്
- (3) രവീന്ദ്രനാഥ് ടാഗോർ
- (4) മഹാത്മാ ഗാന്ധി

Options :

- 212807119045 1
- 212807119046 2
- 212807119047 3
- 212807119048 4

Question Number : 277 Question Id : 21280729762 Question Type : MCQ Option Shuffling : No Is Question Mandatory : No Calculator : None  
Response Time : N.A Think Time : N.A Minimum Instruction Time : 0

Correct Marks : 5 Wrong Marks : 1

Question Key Details :

Key	Value
Comprehension	MCQ

“ଗୀତାଞ୍ଜଳି” ବିଏ ଉଚ୍ଚମା ଜଡ଼ିଥିଲେ ?

- (1) ପ୍ରେମଚନ୍ଦ
- (2) ଶରତ ଚନ୍ଦ୍ର ଚନ୍ତୋପାଧ୍ୟାୟ
- (3) ରବୀନ୍ଦ୍ରନାଥ ଟାଗୋର
- (4) ମହାତ୍ମା ଗାନ୍ଧୀ

Options :

- 212807119045 1
- 212807119046 2
- 212807119047 3
- 212807119048 4

Question Number : 277 Question Id : 21280729762 Question Type : MCQ Option Shuffling : No Is Question Mandatory : No Calculator : None  
Response Time : N.A Think Time : N.A Minimum Instruction Time : 0

Correct Marks : 5 Wrong Marks : 1



212807119048 4

Question Number : 277 Question Id : 21280729762 Question Type : MCQ Option Shuffling : No Is Question Mandatory : No Calculator : None  
Response Time : N.A Think Time : N.A Minimum Instruction Time : 0

Correct Marks : 5 Wrong Marks : 1

Question Key Details :

Key	Value
Comprehension	MCQ

کتاب "گیتا نگلی" کے مصنف کون ہیں ؟

- (1) پریم چند
- (2) شرد چند پو پادھیالے
- (3) رائدر ناتھ ٹیگور
- (4) میر تقی میر

Options :

212807119045 1

212807119046 2

212807119047 3

212807119048 4

Question Number : 278 Question Id : 21280729763 Question Type : MCQ Option Shuffling : No Is Question Mandatory : No Calculator : None  
Response Time : N.A Think Time : N.A Minimum Instruction Time : 0

Correct Marks : 5 Wrong Marks : 1

Question Key Details :

Key	Value
Comprehension	MCQ

Every year the world environment day is celebrated on \_\_\_\_\_.

- (1) 5<sup>th</sup> June
- (2) 11<sup>th</sup> July
- (3) 5<sup>th</sup> July
- (4) 11<sup>th</sup> June

Options :

212807119049 1

212807119050 2

212807119051 3

212807119052 4

Question Number : 278 Question Id : 21280729763 Question Type : MCQ Option Shuffling : No Is Question Mandatory : No Calculator : None  
Response Time : N.A Think Time : N.A Minimum Instruction Time : 0

Correct Marks : 5 Wrong Marks : 1

Question Key Details :

Key	Value
Comprehension	MCQ

विश्व पर्यावरण दिवस प्रतिवर्ष \_\_\_\_\_ को मनाया जाता है।

- (1) 5 जून
- (2) 11 जुलाई
- (3) 5 जुलाई
- (4) 11 जून

Options :

212807119049 1  
212807119050 2  
212807119051 3  
212807119052 4

Question Number : 278 Question Id : 21280729763 Question Type : MCQ Option Shuffling : No Is Question Mandatory : No Calculator : None  
Response Time : N.A Think Time : N.A Minimum Instruction Time : 0

Correct Marks : 5 Wrong Marks : 1

Question Key Details :

Key	Value
Comprehension	MCQ

প্রত্যেক বছরে বিশ্ব পরিবেশ দিবস হিচাপে \_\_\_\_\_ দিনটো উদ্‌যাপন করা হয়।

- (1) 5 জুন
- (2) 11 জুলাই
- (3) 5 জুলাই
- (4) 11 জুন

Options :

212807119049 1  
212807119050 2  
212807119051 3  
212807119052 4

Question Number : 278 Question Id : 21280729763 Question Type : MCQ Option Shuffling : No Is Question Mandatory : No Calculator : None  
Response Time : N.A Think Time : N.A Minimum Instruction Time : 0

Correct Marks : 5 Wrong Marks : 1

Question Key Details :

Key	Value
Comprehension	MCQ

প্রতিবছর বিশ্ব পরিবেশ দিবস পালিত হয় \_\_\_\_\_।

- (1) 5 ই জুন
- (2) 11 ই জুলাই
- (3) 5 ই জুলাই
- (4) 11 ই জুন

Options :

212807119049 1  
212807119050 2  
212807119051 3  
212807119052 4

Question Number : 278 Question Id : 21280729763 Question Type : MCQ Option Shuffling : No Is Question Mandatory : No Calculator : None  
Response Time : N.A Think Time : N.A Minimum Instruction Time : 0

Correct Marks : 5 Wrong Marks : 1

Question Key Details :

Key	Value
Comprehension	MCQ

દર વર્ષે વિશ્વ પર્યાવરણ દિવસ ઉજવવામાં આવે છે તે \_\_\_\_\_.

- (1) 5 જુન
- (2) 11 જુલાઈ
- (3) 5 જુલાઈ
- (4) 11 જુન

Options :

112807119049 1  
112807119050 2  
112807119051 3  
112807119052 4

Question Number : 278 Question Id : 21280729763 Question Type : MCQ Option Shuffling : No Is Question Mandatory : No Calculator : None

Response Time : N.A Think Time : N.A Minimum Instruction Time : 0

Correct Marks : 5 Wrong Marks : 1

Question Key Details :

Key	Value
Comprehension	MCQ

એટલે પવનગર ડિસવન્યુ પ્રકૃતિ વર્ષા એન્યુ આકરિસલગુક્રુદે ?

- (1) 5ને જુન
- (2) 11ને જુલૈ
- (3) 5ને જુલૈ
- (4) 11ને જુન

Options :

112807119049 1  
112807119050 2  
112807119051 3  
112807119052 4

Question Number : 278 Question Id : 21280729763 Question Type : MCQ Option Shuffling : No Is Question Mandatory : No Calculator : None

Response Time : N.A Think Time : N.A Minimum Instruction Time : 0

Correct Marks : 5 Wrong Marks : 1

Question Key Details :

Key	Value
Comprehension	MCQ

દરવર્ષી \_\_\_\_\_ રોજી આગતિક પર્યાવરણ દિન સાજય કેલા જાતો.

- (1) 5 જૂન
- (2) 11 જુલૈ
- (3) 5 જુલૈ
- (4) 11 જૂન

Options :

112807119049 1  
112807119050 2  
112807119051 3  
112807119052 4

Question Number : 278 Question Id : 21280729763 Question Type : MCQ Option Shuffling : No Is Question Mandatory : No Calculator : None

Response Time : N.A Think Time : N.A Minimum Instruction Time : 0

Correct Marks : 5 Wrong Marks : 1

Question Key Details :

Key	Value
Comprehension	MCQ

എല്ലാ വർഷവും മലയാള പരിസ്ഥിതി ദിനമായി ആചരിക്കുന്ന ദിനം ഏത് ?

- (1) ജൂൺ 5
- (2) ജൂലൈ 11
- (3) ജൂലൈ 5
- (4) ജൂൺ 11

Options :

212807119049 : 1  
 212807119050 : 2  
 212807119051 : 3  
 212807119052 : 4

Question Number : 275 Question Id : 21280729763 Question Type : MCQ Option Shuffling : No Is Question Mandatory : No Calculator : None  
 Response Time : N.A Think Time : N.A Minimum Instruction Time : 0

Correct Marks : 5 Wrong Marks : 1

Question Key Details :

Key	Value
Comprehension	MCQ

വിഴി പരിഭവേണ ദിവസം പ്രത്യേക കൾ \_\_\_\_\_ ന്റെ വാക്യ കമ്പോസിംഗ് ।

- (1) 5 കൂൾ
- (2) 11 കൂൾ
- (3) 5 കൂൾ
- (4) 11 കൂൾ

Options :

212807119049 : 1  
 212807119050 : 2  
 212807119051 : 3  
 212807119052 : 4

Question Number : 276 Question Id : 21280729763 Question Type : MCQ Option Shuffling : No Is Question Mandatory : No Calculator : None  
 Response Time : N.A Think Time : N.A Minimum Instruction Time : 0

Correct Marks : 5 Wrong Marks : 1

Question Key Details :

Key	Value
Comprehension	MCQ

ਹਰ ਸਾਲ ਵਿਸ਼ਵ ਵਾਤਾਵਰਣ ਦਿਵਸ ਕੌਂ ਮਨਾਇਆ ਜਾਂਦਾ ਹੈ :

- (1) 5 ਜੂਨ
- (2) 11 ਜੁਲਾਈ
- (3) 5 ਜੁਲਾਈ
- (4) 11 ਜੂਨ

Options :

212807119049 : 1  
 212807119050 : 2  
 212807119051 : 3  
 212807119052 : 4

Question Number : 275 Question Id : 21280719763 Question Type : MCQ Option Shuffling : No Is Question Mandatory : No Calculator : None  
Response Time : N.A Think Time : N.A Minimum Instruction Time : 0

Correct Marks : 5 Wrong Marks : 1

Question Key Details :

Key	Value
Comprehension	MCQ

ஒவ்வொரு ஆண்டும் உலக சுற்றுச்சூழல் தினம் கொண்டாடப்படுகிறது.

- (1) 5th ஜூன்
- (2) 11th ஜூலை
- (3) 5th ஜூலை
- (4) 11th ஜூன்

Options :

212807119049 1

212807119050 2

212807119051 3

212807119052 4

Question Number : 278 Question Id : 21280729763 Question Type : MCQ Option Shuffling : No Is Question Mandatory : No Calculator : None  
Response Time : N.A Think Time : N.A Minimum Instruction Time : 0

Correct Marks : 5 Wrong Marks : 1

Question Key Details :

Key	Value
Comprehension	MCQ

ప్రతి సంవత్సరం ప్రపంచ పర్యావరణ దినం ఎప్పుడు జరుపుకుంటారు ?

- (1) జూన్ 5
- (2) జూలై 11
- (3) జూలై 5
- (4) జూన్ 11

Options :

212807119049 1

212807119050 2

212807119051 3

212807119052 4

Question Number : 279 Question Id : 21280729763 Question Type : MCQ Option Shuffling : No Is Question Mandatory : No Calculator : None  
Response Time : N.A Think Time : N.A Minimum Instruction Time : 0

Correct Marks : 5 Wrong Marks : 1

Question Key Details :

Key	Value
Comprehension	MCQ

عالمی یوم ہاتھوں پر سال منایا جاتا ہے۔ کو

- (1) 5 جون کو
- (2) 11 ویں جولائی کو
- (3) 5 ویں جولائی کو
- (4) 11 ویں جون

Options :

- 212807119049 1
- 212807119050 2
- 212807119051 3
- 212807119052 4

Question Number : 279 Question Id : 21280729764 Question Type : MCQ Option Shuffling : No Is Question Mandatory : No Calculator : None  
Response Time : N.A Think Time : N.A Minimum Instruction Time : 0

Correct Marks : 5 Wrong Marks : 1

Question Key Details :

Key	Value
Comprehension	MCQ

Which Indian monument has found place on the Shanghai Cooperation Organisation's '8 wonders of SCO' list ?

- (1) Taj Mahal
- (2) Statue of Unity
- (3) Ajanta Caves
- (4) Konark Sun Temple

Options :

- 212807119053 1
- 212807119054 2
- 212807119055 3
- 212807119056 4

Question Number : 279 Question Id : 21280729764 Question Type : MCQ Option Shuffling : No Is Question Mandatory : No Calculator : None  
Response Time : N.A Think Time : N.A Minimum Instruction Time : 0

Correct Marks : 5 Wrong Marks : 1

Question Key Details :

Key	Value
Comprehension	MCQ

निम्नलिखित में से किस भारतीय स्मारक ने '8 वंडर्स ऑफ एस.सी.ओ. (एस.सी.ओ. के 8 चमत्कार) की सूची में स्थान प्राप्त किया है ?

- (1) ताजमहल
- (2) स्टेच्यू ऑफ यूनिटी
- (3) अजंता की गुफाएं
- (4) कोणार्क सूर्य मंदिर

Options :

- 212807119053 1
- 212807119054 2
- 212807119055 3
- 212807119056 4

Question Number : 279 Question Id : 21280729764 Question Type : MCQ Option Shuffling : No Is Question Mandatory : No Calculator : None  
Response Time : N.A Think Time : N.A Minimum Instruction Time : 0

Correct Marks : 5 Wrong Marks : 1

Question Key Details :

Key	Value
Comprehension	MCQ



সাংগ্ৰাহিক সহযোগিতা সংস্থাৰ 'SCO' ৰ ৪টা আশ্চৰ্য্যৰ মাজত ভাৰতৰ কোনটো কীৰ্ত্তিস্তম্ভই স্থান পাইছে ?

- (1) তাজ মহল
- (2) ঐক্যতাব মূৰ্ত্তি
- (3) অজন্তা গুহা
- (4) কোনাৰ্কৰ সূৰ্য্য মন্দিৰ

Options :

- 112807119053 1  
112807119054 2  
112807119055 3  
112807119056 4

Question Number : 279 Question Id : 21280729764 Question Type : MCQ Option Shuffling : No Is Question Mandatory : No Calculator : None

Response Time : N.A Think Time : N.A Minimum Instruction Time : 0

Correct Marks : 5 Wrong Marks : 1

Question Key Details :

Key	Value
Comprehension	MCQ

কোন ভাৰতীয় স্মৃতিস্তম্ভ সাংগ্ৰাহিক সহযোগিতা সংস্থাৰ অষ্টম আশ্চৰ্য্য হিচাবে 'SCO' তালিকায় স্থান পেয়েছে ?

- (1) তাজ মহল
- (2) ঐক্যতাব মূৰ্ত্তি
- (3) অজন্তা গুহা
- (4) কোনাৰ্কৰ সূৰ্য্য মন্দিৰ

Options :

- 112807119053 1  
112807119054 2  
112807119055 3  
112807119056 4

Question Number : 279 Question Id : 21280729764 Question Type : MCQ Option Shuffling : No Is Question Mandatory : No Calculator : None

Response Time : N.A Think Time : N.A Minimum Instruction Time : 0

Correct Marks : 5 Wrong Marks : 1

Question Key Details :

Key	Value
Comprehension	MCQ

ধ্ৰুৱাৰ আৱিষ্কাৰ কৰাৰ পৰা 'SCO' ৰ ৪টা আশ্চৰ্য্যৰ মাজত ভাৰতৰ কোনটো কীৰ্ত্তিস্তম্ভই স্থান পাইছে ?

- (1) তাজ মহল
- (2) ঐক্যতাব মূৰ্ত্তি
- (3) অজন্তা গুহা
- (4) কোনাৰ্কৰ সূৰ্য্য মন্দিৰ

Options :

- 112807119053 1  
112807119054 2  
112807119055 3  
112807119056 4

Question Number : 279 Question Id : 21280729764 Question Type : MCQ Option Shuffling : No Is Question Mandatory : No Calculator : None

Response Time : N.A Think Time : N.A Minimum Instruction Time : 0

Correct Marks : 5 Wrong Marks : 1

Question Key Details :

Key	Value
Comprehension	MCQ

ಭಾರತದ ಯಾವ ಸ್ಮಾರಕವು ಶಾಂಭೈ ಸಹಕಾರ ಕೂಟದ 'SCO ದ 8 ಆದ್ಯತೆಗಳ' ಪಟ್ಟಿಯಲ್ಲಿ ಜಾಗ ಪಡೆದುಕೊಂಡಿದೆ ?

- (1) ತಾಜ್‌ಮಹಲ್
- (2) ಐಕ್ಯತಾ ಪ್ರತಿಮೆ
- (3) ಅಮಂತ ಗುಡೆಗಳು
- (4) ಕೋನಾರ್ಕ್ ಸೂರ್ಯ ದೇವಸ್ಥಾನ

Options :

- 212807119053 1
- 212807119054 2
- 212807119055 3
- 212807119056 4

Question Number : 279 Question Id : 21280729764 Question Type : MCQ Option Shuffling : No Is Question Mandatory : No Calculator : None Response Time : N.A Think Time : N.A Minimum Instruction Time : 0

Correct Marks : 5 Wrong Marks : 1

Question Key Details :

Key	Value
Comprehension	MCQ

शांभाय कॉर्पोरेशन संघटनेच्या 8 आश्चर्यांच्या यादीत भारतातील कोणत्या वास्तूचा समावेश करण्यात आला आहे ?

- (1) ताजमहाल
- (2) स्टॅच्यू ऑफ युनिटी
- (3) अजंठा लेणी
- (4) कोणार्क सूर्यमंदिर

Options :

- 212807119053 1
- 212807119054 2
- 212807119055 3
- 212807119056 4

Question Number : 279 Question Id : 21280729764 Question Type : MCQ Option Shuffling : No Is Question Mandatory : No Calculator : None Response Time : N.A Think Time : N.A Minimum Instruction Time : 0

Correct Marks : 5 Wrong Marks : 1

Question Key Details :

Key	Value
Comprehension	MCQ

ഘണ്ടായി കോ- ഓപ്പറേഷൻ ഓർഗനൈസേഷന്റെ 8 വർഷാഴ്ച ഓഫ് എസ്. സി. ഒ എന്ന പട്ടികയിൽ ഇടം പിടിച്ച ഇന്ത്യൻ സ്മാരകം ഏത് ?

- (1) താജ്മഹൽ
- (2) സ്റ്റാച്യു ഓഫ് യൂണിറ്റി
- (3) അജന്ത കേവ്സ്
- (4) കോണാർക്ക് സൂര്യക്ഷേത്രം

Options :

- 212807119053 1
- 212807119054 2
- 212807119055 3
- 212807119056 4

Question Number : 279 Question Id : 21280719764 Question Type : MCQ Option Shuffling : No Is Question Mandatory : No Calculator : None  
Response Time : N.A Think Time : N.A Minimum Instruction Time : 0

Correct Marks : 5 Wrong Marks : 1

Question Key Details :

Key	Value
Comprehension	MCQ

ਕੋਈ ਛਾਹਦਾਸ ਚੂਹੜਾ ਵਾਹਾਜ਼ ਵਰਦੇਹਰ ਬਜ਼ਾਹ SCC ਚਾਠਿਕਾਹ 8 ਠ ਲਾਠਾਹ ਰੂਹੇ ਖ਼ਾਹ ਠਾਠਠੈ ?

- (1) ਚਾਠਠਠਠਠ
- (2) ਲੋਠੂ ਠਠ ਖ਼ੁਠਿਠ
- (3) ਠਠਠ ਠੁਠਾ
- (4) ਠੋਠਠਠ ਠੁਠਠ ਠਠਿਠ

Options :

212807119053.1

212807119054.2

212807119055.3

212807119056.4

Question Number : 279 Question Id : 21280719764 Question Type : MCQ Option Shuffling : No Is Question Mandatory : No Calculator : None  
Response Time : N.A Think Time : N.A Minimum Instruction Time : 0

Correct Marks : 5 Wrong Marks : 1

Question Key Details :

Key	Value
Comprehension	MCQ

ਸੰਘਾਈ ਸਹਿਯੋਗ ਸੰਗਠਨ 'ਐਸ.ਸੀ.ਓ. ਸੂਚੀ ਦੇ 8 ਅਜੁਬਿਆਂ' ਵਿਚ ਸ਼ਾਮਿਲ ਹੋਣ ਦਾ ਕਿਹੜੇ ਭਾਰਤੀ ਸਮਾਰਕ ਨੂੰ ਸਥਾਨ ਮਿਲਿਆ ਹੈ?

- (1) ਰਾਜ ਮਹਲ
- (2) ਸਟੈਚੂ ਆਫ ਯੂਠਿਠੀ
- (3) ਅਜੰਠਾ ਗੁਠਾ
- (4) ਕੋਠਾਚਕ ਸਠ ਮੰਦਿਰ

Options :

212807119053.1

212807119054.2

212807119055.3

212807119056.4

Question Number : 279 Question Id : 21280719764 Question Type : MCQ Option Shuffling : No Is Question Mandatory : No Calculator : None  
Response Time : N.A Think Time : N.A Minimum Instruction Time : 0

Correct Marks : 5 Wrong Marks : 1

Question Key Details :

Key	Value
Comprehension	MCQ

ஷாங்காய் ஒத்துழைப்பு அமைப்பின் 'ஷாங்காய் ஒத்துழைப்பு அமைப்பின் 8 அதிசயங்கள்' பட்டியலில் இடம் பெற்ற இந்திய நினைவுச்சின்னம் எது?

- (1) தாஜ்மஹால்
- (2) ஒற்றுமைச் சிலை
- (3) அஜந்தா குகைகள்
- (4) கொனார்ட் சூரியன் கோயில்

Options :

- 212807119053 1  
212807119054 2  
212807119055 3  
212807119056 4

Question Number : 279 Question Id : 21280719764 Question Type : MCQ Option Shuffling : No Is Question Mandatory : No Calculator : None Response Time : N.A Think Time : N.A Minimum Instruction Time : 0

Correct Marks : 5 Wrong Marks : 1

Question Key Details :

Key	Value
Comprehension	MCQ

షాంగాయ్ కాప్టరేషన్ అర్గనైజేషన్ యొక్క SCQ 8 వింతల జాబితాలో ఏ భారత కట్టడం వోలు దక్కించుకుంది ?

- (1) తాజ్మహల్
- (2) స్టాచ్యూ ఆఫ్ యునిటీ
- (3) అజంతా గుహలు
- (4) కోణార్క్ సూర్య దేవాలయం

Options :

- 212807119053 1  
212807119054 2  
212807119055 3  
212807119056 4

Question Number : 279 Question Id : 21280719764 Question Type : MCQ Option Shuffling : No Is Question Mandatory : No Calculator : None Response Time : N.A Think Time : N.A Minimum Instruction Time : 0

Correct Marks : 5 Wrong Marks : 1

Question Key Details :

Key	Value
Comprehension	MCQ

شکھائی کو آپریشن آرگنائزیشن کی آٹھ مجموعی کی اسٹ میں کس ہندوستانی آثار قدیمہ کو جگہ ملی ہے ؟

- (1) تاج محل
- (2) اسٹو آف یونٹی
- (3) اجنتا کے غار
- (4) کوہرک من مہل

Options :

- 212807119053 1  
212807119054 2

212507119053-3  
212507119056-4

Question Number : 250 Question Id : 21250719766 Question Type : MCQ Option Shuffling : No Is Question Mandatory : No Calculator : None  
Response Time : N.A Think Time : N.A Minimum Instruction Time : 0

Correct Marks : 5 Wrong Marks : 1

Question Key Details :

Key	Value
Comprehension	MCQ

Which Veda is the oldest Veda ?

- (1) Ayurveda
- (2) Rigveda
- (3) Athary Veda
- (4) Sam Veda

Options :

212507119057-1  
212507119053-1  
212507119059-3  
212507119060-4

Question Number : 250 Question Id : 21250719766 Question Type : MCQ Option Shuffling : No Is Question Mandatory : No Calculator : None  
Response Time : N.A Think Time : N.A Minimum Instruction Time : 0

Correct Marks : 5 Wrong Marks : 1

Question Key Details :

Key	Value
Comprehension	MCQ

निम्नलिखित में से कौन-सा वेद प्राचीनतम् वेद है ?

- (1) रजुर्वेद
- (2) ऋग्वेद
- (3) अथर्ववेद
- (4) सामवेद

Options :

212507119057-1  
212507119053-1  
212507119059-3  
212507119060-4

Question Number : 250 Question Id : 21250719766 Question Type : MCQ Option Shuffling : No Is Question Mandatory : No Calculator : None  
Response Time : N.A Think Time : N.A Minimum Instruction Time : 0

Correct Marks : 5 Wrong Marks : 1

Question Key Details :

Key	Value
Comprehension	MCQ

सकल्लोतकै पुस्ति वेद केमथम् ?

- (1) आयुर्वेद
- (2) शकवेद
- (3) अथर्व वेद
- (4) सामि वेद

Options :

212507119057-1

212807119058.1  
212807119059.3  
212807119060.4

Question Number : 280 Question Id : 21280729765 Question Type : MCQ Option Shuffling : No Is Question Mandatory : No Calculator : None  
Response Time : N.A Think Time : N.A Minimum Instruction Time : 0

Correct Marks : 5 Wrong Marks : 1

Question Key Details :

Key	Value
Comprehension	MCQ

ಕೊನೆಯ ವೇದವೆಂದರೆ ಪುರೋನಾ ವೇದ ?

- (1) ಅಯುರ್ವೇದ
- (2) ಶಾಖಾವೇದ
- (3) ಅಥರ್ವ ವೇದ
- (4) ಸಾಮ ವೇದ

Options :

212807119057.1  
212807119058.1  
212807119059.3  
212807119060.4

Question Number : 280 Question Id : 21280729765 Question Type : MCQ Option Shuffling : No Is Question Mandatory : No Calculator : None  
Response Time : N.A Think Time : N.A Minimum Instruction Time : 0

Correct Marks : 5 Wrong Marks : 1

Question Key Details :

Key	Value
Comprehension	MCQ

ಶ್ರೀ ವೇದ ಸ್ತೋತ್ರವೆಂದರೆ ?

- (1) ಅಯುರ್ವೇದ
- (2) ಶಾಖಾವೇದ
- (3) ಅಥರ್ವ ವೇದ
- (4) ಸಾಮ ವೇದ

Options :

212807119057.1  
212807119058.1  
212807119059.3  
212807119060.4

Question Number : 280 Question Id : 21280729765 Question Type : MCQ Option Shuffling : No Is Question Mandatory : No Calculator : None  
Response Time : N.A Think Time : N.A Minimum Instruction Time : 0

Correct Marks : 5 Wrong Marks : 1

Question Key Details :

Key	Value
Comprehension	MCQ

ಯಾವ ವೇದವು ಅತ್ಯಂತ ಪುರಾತನವಾದುದು ?

- (1) ಅಯುರ್ವೇದ
- (2) ಯಜುರ್ವೇದ
- (3) ಅಥರ್ವವೇದ
- (4) ಸಾಮವೇದ

Options :

- 212807119057 1
- 212807119058 2
- 212807119059 3
- 212807119060 4

Question Number : 230 Question Id : 21280729765 Question Type : MCQ Option Shuffling : No Is Question Mandatory : No Calculator : None  
Response Time : N.A Think Time : N.A Minimum Instruction Time : 0

Correct Marks : 5 Wrong Marks : 1

Question Key Details :

Key	Value
Comprehension	MCQ

सर्वात प्राचीन वेद कोणता ?

- (1) आयुर्वेद
- (2) ऋग्वेद
- (3) अथर्ववेद
- (4) सामवेद

Options :

- 212807119057 1
- 212807119058 2
- 212807119059 3
- 212807119060 4

Question Number : 230 Question Id : 21280729765 Question Type : MCQ Option Shuffling : No Is Question Mandatory : No Calculator : None  
Response Time : N.A Think Time : N.A Minimum Instruction Time : 0

Correct Marks : 5 Wrong Marks : 1

Question Key Details :

Key	Value
Comprehension	MCQ

എറ്റവും പഴയ വേദം ഏത് ?

- (1) ആയുർവേദം
- (2) ഋഗ് വേദം
- (3) അഥർവ്വ വേദം
- (4) സാമ വേദം

Options :

- 212807119057 1
- 212807119058 2
- 212807119059 3
- 212807119060 4

Question Number : 250 Question Id : 21280729765 Question Type : MCQ Option Shuffling : No Is Question Mandatory : No Calculator : None  
Response Time : N.A Think Time : N.A Minimum Instruction Time : 0

Correct Marks : 5 Wrong Marks : 1

Question Key Details :

Key	Value
Comprehension	MCQ

କେଉଁ ଦେଶର ସବୁଠାରୁ ପୁରାତନ ଦେଶ ଅଟେ ?

- (1) ଆଣ୍ଡୋର
- (2) ଭରତେନ୍ଦ
- (3) ଅଥର୍ବ ଦେଶ
- (4) ପାମ୍ ଦେଶ

Options :

- 112807119057 1  
112807119058 2  
112807119059 3  
112807119060 4

Question Number : 280 Question Id : 21280729765 Question Type : MCQ Option Shuffling : No Is Question Mandatory : No Calculator : None  
Response Time : N.A Think Time : N.A Minimum Instruction Time : 0

Correct Marks : 5 Wrong Marks : 1

Question Key Details :

Key	Value
Comprehension	MCQ

କିପକା ଦେଶ ସବୁ ମୁଁ ପୁରାତନ ଦେଶ ਹੈ ?

- (1) ଅନ୍ଧରଦେଶ
- (2) ବିଗଦେଶ
- (3) ଅଧରଦେଶ
- (4) ମାମ ଦେଶ

Options :

- 112807119057 1  
112807119058 2  
112807119059 3  
112807119060 4

Question Number : 280 Question Id : 21280729765 Question Type : MCQ Option Shuffling : No Is Question Mandatory : No Calculator : None  
Response Time : N.A Think Time : N.A Minimum Instruction Time : 0

Correct Marks : 5 Wrong Marks : 1

Question Key Details :

Key	Value
Comprehension	MCQ

ପ୍ରଥମାଧ୍ୟାୟୀୟ ଦେଶତମ୍ ଶତ୍ରୁ ?

- (1) ଅଧିପ୍ରଦେଶ
- (2) Rigveda
- (3) ଅଧିପ୍ରଦେଶ
- (4) ମାମ ଦେଶ

Options :

- 112807119057 1  
112807119058 2  
112807119059 3  
112807119060 4

Question Number : 280 Question Id : 21280729765 Question Type : MCQ Option Shuffling : No Is Question Mandatory : No Calculator : None  
Response Time : N.A Think Time : N.A Minimum Instruction Time : 0

Correct Marks : 5 Wrong Marks : 1



Question Key Details :

Key	Value
Comprehension	MCQ

ఏ వేదం పురాతన వేదం ?

- (1) ఆయుర్వేదం
- (2) ఋగ్వేదం
- (3) అథర్వవేదం
- (4) సామవేదం

Options :

- 212807119057 1  
212807119058 2  
212807119059 3  
212807119060 4

Question Number : 250 Question Id : 21280719765 Question Type : MCQ Option Shuffling : No Is Question Mandatory : No Calculator : None  
Response Time : N.A Think Time : N.A Minimum Instruction Time : 0

Correct Marks : 5 Wrong Marks : 1

Question Key Details :

Key	Value
Comprehension	MCQ

سب سے پرانی وید کونسی ہے ؟

- (1) آجروید
- (2) رگ وید
- (3) اتھرووید
- (4) سام وید

Options :

- 212807119057 1  
212807119058 2  
212807119059 3  
212807119060 4

Question Number : 281 Question Id : 21280719766 Question Type : MCQ Option Shuffling : No Is Question Mandatory : No Calculator : None  
Response Time : N.A Think Time : N.A Minimum Instruction Time : 0

Correct Marks : 5 Wrong Marks : 1

Question Key Details :

Key	Value
Comprehension	MCQ

Simon Commission Act happened during the term of \_\_\_\_\_.

- (1) Lord Willigdon
- (2) L. Mountbattern
- (3) Lord Irwin
- (4) Lord Dalhousie

Options :

- 212807119061 1  
212807119062 2  
212807119063 3  
212807119064 4

Question Number : 251 Question Id : 21250729766 Question Type : MCQ Option Shuffling : No Is Question Mandatory : No Calculator : None  
Response Time : N.A Think Time : N.A Minimum Instruction Time : 0

Correct Marks : 5 Wrong Marks : 1

Question Key Details :

Key	Value
Comprehension	MCQ

साइमन आयोग अधिनियम \_\_\_\_\_ के कार्यकाल की घटना है।

- (1) लॉर्ड वेलिंगटन
- (2) लॉर्ड माउंटबेटन
- (3) लॉर्ड इरविन
- (4) लॉर्ड डलहौजी

Options :

- 212507119061: 1  
212507119062: 2  
212507119063: 3  
212507119064: 4

Question Number : 251 Question Id : 21250729766 Question Type : MCQ Option Shuffling : No Is Question Mandatory : No Calculator : None  
Response Time : N.A Think Time : N.A Minimum Instruction Time : 0

Correct Marks : 5 Wrong Marks : 1

Question Key Details :

Key	Value
Comprehension	MCQ

इतिमन कमिशन अधिनियम \_\_\_\_\_ व कार्यकालत प्रघाटन कवा हैछिल।

- (1) लर्ड डेविलिंगटन
- (2) एल. माउन्टबेटन
- (3) लर्ड आइरविन
- (4) लर्ड डेलहौजी

Options :

- 212507119061: 1  
212507119062: 2  
212507119063: 3  
212507119064: 4

Question Number : 251 Question Id : 21250729766 Question Type : MCQ Option Shuffling : No Is Question Mandatory : No Calculator : None  
Response Time : N.A Think Time : N.A Minimum Instruction Time : 0

Correct Marks : 5 Wrong Marks : 1

Question Key Details :

Key	Value
Comprehension	MCQ

कस समये साहिमन कमिशन आइल घटेछिल ?

- (1) लर्ड डेविलिंगटन
- (2) एल. माउन्टबेटन
- (3) लर्ड आरडेल
- (4) लर्ड डालहौजी

Options :

- 212507119061: 1

212807119062 1  
212807119063 3  
212807119064 4

Question Number : 281 Question Id : 21280729766 Question Type : MCQ Option Shuffling : No Is Question Mandatory : No Calculator : None  
Response Time : N.A Think Time : N.A Minimum Instruction Time : 0

Correct Marks : 5 Wrong Marks : 1

Question Key Details :

Key	Value
Comprehension	MCQ

\_\_\_\_\_ ની મુદત દરમ્યાન સિમોન કમિશન એક્ટ ચર્ચું હતું.

- (1) Lord Willigden
- (2) L. Mountbattern
- (3) Lord Irwin
- (4) Lord Dalhousie

Options :

212807119061 1  
212807119062 1  
212807119063 3  
212807119064 4

Question Number : 281 Question Id : 21280729766 Question Type : MCQ Option Shuffling : No Is Question Mandatory : No Calculator : None  
Response Time : N.A Think Time : N.A Minimum Instruction Time : 0

Correct Marks : 5 Wrong Marks : 1

Question Key Details :

Key	Value
Comprehension	MCQ

સૈમન્સ અરેબીયન કામ્પીયુ યમાત અવધિય સંવર્ધનમાં જરૂરી ?

- (1) લાર્ડ વીલિંગ્ટન
- (2) લા. માઉન્ટબાટન
- (3) લાર્ડ આર્ચર
- (4) લાર્ડ ડાલહૌસી

Options :

212807119061 1  
212807119062 2  
212807119063 3  
212807119064 4

Question Number : 281 Question Id : 21280729766 Question Type : MCQ Option Shuffling : No Is Question Mandatory : No Calculator : None  
Response Time : N.A Think Time : N.A Minimum Instruction Time : 0

Correct Marks : 5 Wrong Marks : 1

Question Key Details :

Key	Value
Comprehension	MCQ

\_\_\_\_\_ ચા કાર્યકાલ્પત સાયમન કમિશન ઘટના ઘટલી.

- (1) લોર્ડ વિલિંગ્ટન
- (2) લોર્ડ માઉન્ટબૅટન
- (3) લોર્ડ આર્ચર
- (4) લોર્ડ ડલહૌસી

Options :

212807119061 1

212807119062 : 1  
212807119063 : 3  
212807119064 : 4

Question Number : 251 Question Id : 21280729766 Question Type : MCQ Option Shuffling : No Is Question Mandatory : No Calculator : None  
Response Time : N.A Think Time : N.A Minimum Instruction Time : 0  
Correct Marks : 5 Wrong Marks : 1  
Question Key Details :

Key	Value
Comprehension	MCQ

സൈമൺ കമ്മീഷൻ ആക്ട് നിലവിൽ വന്നത് ആരുടെ കാലത്താണ് ?

- (1) ലോർഡ് വെല്ലിംഗ്ടൺ
- (2) ലോർഡ് മൗണ്ടബാറ്റൺ
- (3) ലോർഡ് ഇർവിൻ
- (4) ലോർഡ് ഡൽഹൗസി

Options :  
212807119061 : 1  
212807119062 : 2  
212807119063 : 3  
212807119064 : 4

Question Number : 251 Question Id : 21280729766 Question Type : MCQ Option Shuffling : No Is Question Mandatory : No Calculator : None  
Response Time : N.A Think Time : N.A Minimum Instruction Time : 0  
Correct Marks : 5 Wrong Marks : 1  
Question Key Details :

Key	Value
Comprehension	MCQ

\_\_\_\_\_ ക്കു കാര്യകാര്യ നയങ്ങൾ നിശ്ചയിച്ചത്, തീർച്ചയായും, ആരുടെ കാലത്താണ് ?

- (1) Lord Willigden (കർട്ടിസ്)
- (2) L. Mounbatten (എൽ. മൗണ്ടബാറ്റൺ)
- (3) Lord Irwin (കർട്ടിസ്)
- (4) Lord Dalhousie (കർട്ടിസ്)

Options :  
212807119061 : 1  
212807119062 : 2  
212807119063 : 3  
212807119064 : 4

Question Number : 251 Question Id : 21280729766 Question Type : MCQ Option Shuffling : No Is Question Mandatory : No Calculator : None  
Response Time : N.A Think Time : N.A Minimum Instruction Time : 0  
Correct Marks : 5 Wrong Marks : 1  
Question Key Details :

Key	Value
Comprehension	MCQ

ਸਾਬੀਮਨ ਬਮਿਸ਼ਨ ਐਕਟ ਕਿਸਦੇ ਕਾਰਜਕਾਲ ਦੌਰਾਨ ਹੋਇਆ ਸੀ :

- (1) ਲਾਰਡ ਵਿਲਿੰਗਡਨ
- (2) ਐਲ. ਮਾਊਂਟਬੈਟਰਨ
- (3) ਲਾਰਡ ਇਚਿਨ
- (4) ਲਾਰਡ ਡਲਹੌਜੀ

Options :

- 212507119061 1  
212507119062 2  
212507119063 3  
212507119064 4

Question Number : 281 Question Id : 21250729766 Question Type : MCQ Option Shuffling : No Is Question Mandatory : No Calculator : None  
Response Time : N.A Think Time : N.A Minimum Instruction Time : 0

Correct Marks : 5 Wrong Marks : 1

Question Key Details :

Key	Value
Comprehension	MCQ

ਯੋਗਮਯੋਗ ਕਮਿਸ਼ਨ ਦਾ ਸਥਾਪਨਾ \_\_\_\_\_ ਪ੍ਰਭੂਗੋਪਾਲਕਾਲ ਵਿੱਚ ਹੋਈ।

- (1) ਸਿੰਘ ਸਿੰਘ ਪਿਰਪੁ
- (2) ਐਲ. ਮਾਊਂਟਬੈਟਰਨ
- (3) ਐਚ. ਐਚ. ਪਿਰਪੁ
- (4) ਡਲਹੌਜੀ ਪਿਰਪੁ

Options :

- 212507119061 1  
212507119062 2  
212507119063 3  
212507119064 4

Question Number : 281 Question Id : 21250729766 Question Type : MCQ Option Shuffling : No Is Question Mandatory : No Calculator : None  
Response Time : N.A Think Time : N.A Minimum Instruction Time : 0

Correct Marks : 5 Wrong Marks : 1

Question Key Details :

Key	Value
Comprehension	MCQ

ਸੋਮਨ ਕਮਿਸ਼ਨ ਦਾ ਸਥਾਪਨਾ \_\_\_\_\_ ਪ੍ਰਭੂਗੋਪਾਲਕਾਲ ਵਿੱਚ ਹੋਈ ?

- (1) ਲਾਰਡ ਵਿਲਿੰਗਡਨ
- (2) ਐਲ. ਮਾਊਂਟਬੈਟਰਨ
- (3) ਲਾਰਡ ਇਚਿਨ
- (4) ਲਾਰਡ ਡਲਹੌਜੀ

Options :

- 212507119061 1  
212507119062 2  
212507119063 3  
212507119064 4

Question Number : 251 Question Id : 21280719766 Question Type : MCQ Option Shuffling : No Is Question Mandatory : No Calculator : None  
Response Time : N.A Think Time : N.A Minimum Instruction Time : 0

Correct Marks : 5 Wrong Marks : 1

Question Key Details :

Key	Value
Comprehension	MCQ

سائنس کمیشن ایک واقع ہوا \_\_\_\_\_ کے زمانے میں۔

(1) ایڈولٹنڈن

(2) ایڈولٹنٹین

(3) ایڈولٹرون

(4) ایڈولٹیورزی

Options :

21280719061 1

21280719062 2

21280719063 3

21280719064 4

Question Number : 252 Question Id : 21280719767 Question Type : MCQ Option Shuffling : No Is Question Mandatory : No Calculator : None  
Response Time : N.A Think Time : N.A Minimum Instruction Time : 0

Correct Marks : 5 Wrong Marks : 1

Question Key Details :

Key	Value
Comprehension	MCQ

Blue Revolution is related to the production of \_\_\_\_\_.

(1) Milk

(2) Fish

(3) Oilseeds

(4) Pulses

Options :

21280719065 1

21280719066 2

21280719067 3

21280719068 4

Question Number : 253 Question Id : 21280719767 Question Type : MCQ Option Shuffling : No Is Question Mandatory : No Calculator : None  
Response Time : N.A Think Time : N.A Minimum Instruction Time : 0

Correct Marks : 5 Wrong Marks : 1

Question Key Details :

Key	Value
Comprehension	MCQ

नीली क्रांति (ब्ल्यू रिवोल्यूशन) किससे संबंधित है ?

(1) दूध

(2) मछली

(3) तिलहन

(4) चार्ले

Options :

21280719065 1

21280719066 2

212507119067-3  
212507119068-4

Question Number : 252 Question Id : 21250719767 Question Type : MCQ Option Shuffling : No Is Question Mandatory : No Calculator : None  
Response Time : N.A Think Time : N.A Minimum Instruction Time : 0  
Correct Marks : 5 Wrong Marks : 1

Question Key Details :

Key	Value
Comprehension	MCQ

নীল বিপ্লব \_\_\_\_\_ উৎপাদনকে সৈতে জড়িত।

- (1) পাখীর
- (2) মাছ
- (3) তৈল বীজ
- (4) দালি

Options :

212507119069-1  
212507119068-2  
212507119067-3  
212507119068-4

Question Number : 262 Question Id : 21250729767 Question Type : MCQ Option Shuffling : No Is Question Mandatory : No Calculator : None  
Response Time : N.A Think Time : N.A Minimum Instruction Time : 0  
Correct Marks : 5 Wrong Marks : 1

Question Key Details :

Key	Value
Comprehension	MCQ

কোন উৎপাদনের সাথে নীল বিপ্লব সম্পর্কিত ?

- (1) দুধ
- (2) মাছ
- (3) তৈল বীজ
- (4) ডাল

Options :

212507119063-1  
212507119068-2  
212507119067-3  
212507119068-4

Question Number : 352 Question Id : 21250719767 Question Type : MCQ Option Shuffling : No Is Question Mandatory : No Calculator : None  
Response Time : N.A Think Time : N.A Minimum Instruction Time : 0  
Correct Marks : 5 Wrong Marks : 1

Question Key Details :

Key	Value
Comprehension	MCQ

\_\_\_\_\_ নাম উল্লেখ নে সংশ্লিষ্ট ব্যাচনী ক্রান্তি (ব্লু রিভোল্যুশন) (Blue Revolution) છે.

- (1) દૂધ
- (2) માછલી
- (3) તેલીબિયાં
- (4) ડાળ

Options :

- 212807119063 1
- 212807119065 2
- 212807119067 3
- 212807119068 4

Question Number : 231 Question Id : 21280729767 Question Type : MCQ Option Shuffling : No Is Question Mandatory : No Calculator : None  
Response Time : N.A Think Time : N.A Minimum Instruction Time : 0

Correct Marks : 5 Wrong Marks : 1

Question Key Details :

Key	Value
Comprehension	MCQ

ನೀಲಿ ಕ್ರಾಂತಿಯು ಈ ಉತ್ಪನ್ನಕ್ಕೆ ಸಂಬಂಧಿಸಿದ್ದು :

- (1) ಹಾಲು
- (2) ಮೀಸು
- (3) ಎಣ್ಣೆಬೀಜಗಳು
- (4) ದೇಹಕಾಯಗಳು

Options :

- 212807119065 1
- 212807119066 2
- 212807119067 3
- 212807119068 4

Question Number : 232 Question Id : 21280729767 Question Type : MCQ Option Shuffling : No Is Question Mandatory : No Calculator : None  
Response Time : N.A Think Time : N.A Minimum Instruction Time : 0

Correct Marks : 5 Wrong Marks : 1

Question Key Details :

Key	Value
Comprehension	MCQ

ನೀಲಕ್ರಾಂತಿ ಹಿ \_\_\_\_\_ ನ್ನು ಉತ್ಪಾದನಾಶೀ ಸಂಬಂಧಿತ ಆಹೆ.

- (1) ದುಧ
- (2) ಮಲಸು
- (3) ತೆಲಬಿಯಾ
- (4) ಡಾಲ್ಡಿ

Options :

- 212807119063 1
- 212807119065 2
- 212807119067 3
- 212807119068 4

Question Number : 233 Question Id : 21280729767 Question Type : MCQ Option Shuffling : No Is Question Mandatory : No Calculator : None  
Response Time : N.A Think Time : N.A Minimum Instruction Time : 0

Correct Marks : 5 Wrong Marks : 1

Question Key Details :

Key	Value
Comprehension	MCQ



നീള വിപ്ലവം എന്തിന്റെ ഉൽപാദനവുമായി ബന്ധപ്പെട്ടിരിക്കുന്നു ?

- (1) പാൽ
- (2) മത്സ്യം
- (3) എണ്ണക്കുരുക്കൾ
- (4) പയർ വർഗ്ഗങ്ങൾ

Options :

- 212807119065 : 1
- 212807119066 : 2
- 212807119067 : 3
- 212807119068 : 4

Question Number : 252 Question Id : 21280719767 Question Type : MCQ Option Shuffling : No Is Question Mandatory : No Calculator : None Response Time : N.A Think Time : N.A Minimum Instruction Time : 0

Correct Marks : 5 Wrong Marks : 1

Question Key Details :

Key	Value
Comprehension	MCQ

നാലു ഭിമുര \_\_\_\_\_ രണ്ടാമതെ വരികെ ഒഴുകി ।

- (1) ജിര
- (2) നാജ
- (3) രാജഭിമുര
- (4) ഭിമു

Options :

- 212807119065 : 1
- 212807119066 : 2
- 212807119067 : 3
- 212807119068 : 4

Question Number : 252 Question Id : 21280719767 Question Type : MCQ Option Shuffling : No Is Question Mandatory : No Calculator : None Response Time : N.A Think Time : N.A Minimum Instruction Time : 0

Correct Marks : 5 Wrong Marks : 1

Question Key Details :

Key	Value
Comprehension	MCQ

നീലി വ്യാജി വിമ ഉത്പാദന നാലു മർദ്ദിത വേ \_\_\_\_\_ ?

- (1) വ്യാജ
- (2) മർദ്ദി
- (3) വേല വ്യാജ
- (4) വ്യാജ

Options :

- 212807119065 : 1
- 212807119066 : 2
- 212807119067 : 3
- 212807119068 : 4

Question Number : 252 Question Id : 21280719767 Question Type : MCQ Option Shuffling : No Is Question Mandatory : No Calculator : None Response Time : N.A Think Time : N.A Minimum Instruction Time : 0

Correct Marks : 5 Wrong Marks : 1

Question Key Details :

Key	Value
Comprehension	MCQ

நீலப்பூரட்சி என்பது \_\_\_\_\_ உற்பத்தியுடன் தொடர்புடையது.

- (1) பால்
- (2) மீன்
- (3) எண்ணெய் வித்துக்கள்
- (4) பயறு வகைகள்

Options :

112807119065 1

112807119066 2

112807119067 3

112807119068 4

Question Number : 252 Question Id : 21280729767 Question Type : MCQ Option Shuffling : No Is Question Mandatory : No Calculator : None  
Response Time : N.A Think Time : N.A Minimum Instruction Time : 0

Correct Marks : 5 Wrong Marks : 1

Question Key Details :

Key	Value
Comprehension	MCQ

নীচے دیے گئے ہیں ان میں سے صحیح جواب چنیں ؟

- (1) پاول
- (2) مین
- (3) نیوٹن کے بیج
- (4) دھن

Options :

112807119065 1

112807119066 2

112807119067 3

112807119068 4

Question Number : 253 Question Id : 21280729767 Question Type : MCQ Option Shuffling : No Is Question Mandatory : No Calculator : None  
Response Time : N.A Think Time : N.A Minimum Instruction Time : 0

Correct Marks : 5 Wrong Marks : 1

Question Key Details :

Key	Value
Comprehension	MCQ

یہ کتاب \_\_\_\_\_ کے بارے میں ہے ؟

- (1) دودھ
- (2) مچھلی
- (3) بیج کی کھجور
- (4) مال

Options :

112807119065 1

112807119066 2

212507119067.3  
212507119069.4

Question Number : 253 Question Id : 21250719766 Question Type : MCQ Option Shuffling : No Is Question Mandatory : No Calculator : None  
Response Time : N.A Think Time : N.A Minimum Instruction Time : 0

Correct Marks : 5 Wrong Marks : 1

Question Key Details :

Key	Value
Comprehension	MCQ

The Place where 'Mohandas Karamchand Gandhi' was kept during 'Quit India Movement' ?

- (1) Almora Jail
- (2) Cellular Jail
- (3) Agha Khan Palace
- (4) Bankura

Options :

212507119069.1  
212507119070.2  
212507119071.3  
212507119072.4

Question Number : 253 Question Id : 21250719766 Question Type : MCQ Option Shuffling : No Is Question Mandatory : No Calculator : None  
Response Time : N.A Think Time : N.A Minimum Instruction Time : 0

Correct Marks : 5 Wrong Marks : 1

Question Key Details :

Key	Value
Comprehension	MCQ

'भारत छोड़ो आंदोलन' के दौरान मोहनदास करमचंद गाँधी को किस स्थान पर रखा गया था ?

- (1) अल्मोड़ा जेल
- (2) सेलुलर जेल
- (3) आगा खान पैलेस
- (4) बांकुरा

Options :

212507119069.1  
212507119070.2  
212507119071.3  
212507119072.4

Question Number : 253 Question Id : 21250719766 Question Type : MCQ Option Shuffling : No Is Question Mandatory : No Calculator : None  
Response Time : N.A Think Time : N.A Minimum Instruction Time : 0

Correct Marks : 5 Wrong Marks : 1

Question Key Details :

Key	Value
Comprehension	MCQ

ভারত ত্যাগ আন্দোলনের সময়ত মোহনদাস করমচান্দ গান্ধীক কোন স্থানত রাখা হৈছিল ?

- (1) আলমোড়া জেলা
- (2) ছেলুলার জেল
- (3) আগা খান প্রসাদ
- (4) বাংকুরা

Options :

212507119069.1

212507119070.1  
212507119071.3  
212507119072.4

Question Number : 283 Question Id : 21250729768 Question Type : MCQ Option Shuffling : No Is Question Mandatory : No Calculator : None  
Response Time : N.A Think Time : N.A Minimum Instruction Time : 0

Correct Marks : 5 Wrong Marks : 1

Question Key Details :

Key	Value
Comprehension	MCQ

'ভারত ছাড়া আন্দোলন'-এর সময় 'মোহনলাস করমর্ডান থাফী' কে কোন স্থানে রাখা হয়েছিল ?

- (1) আলমোড়া জেল
- (2) সেলুলার জেল
- (3) আগা খান প্যালেস
- (4) বঁকুড়া

Options :

212507119069.1  
212507119070.2  
212507119071.3  
212507119072.4

Question Number : 283 Question Id : 21250729768 Question Type : MCQ Option Shuffling : No Is Question Mandatory : No Calculator : None  
Response Time : N.A Think Time : N.A Minimum Instruction Time : 0

Correct Marks : 5 Wrong Marks : 1

Question Key Details :

Key	Value
Comprehension	MCQ

'ভারত छोड़ी आंदोलन' हरम्यान 'गंधीश' ने राधवाभा आष्यां हतां ते स्थण कालावा.

- (1) अलमोरा जेल (Alamora Jail)
- (2) सेल्युलर जेल
- (3) आगा खान महल (Agha Khan Palace)
- (4) बँकुरा (Bankura)

Options :

212507119069.1  
212507119070.2  
212507119071.3  
212507119072.4

Question Number : 283 Question Id : 21250729768 Question Type : MCQ Option Shuffling : No Is Question Mandatory : No Calculator : None  
Response Time : N.A Think Time : N.A Minimum Instruction Time : 0

Correct Marks : 5 Wrong Marks : 1

Question Key Details :

Key	Value
Comprehension	MCQ

\*ಕ್ರಿಸ್ಟ್ ಇಂಡಿಯಾ ಚಳವಳಿ'ಯ ಸಂದರ್ಭದಲ್ಲಿ ಗಾಂಧೀಜಿಯವರನ್ನು ಎಲ್ಲಿ ಇರಿಸಲಾಗಿತ್ತು ?

- (1) ಅಲಮೋರಾ ಬಂಧಿತರಾಗಿದ್ದರು
- (2) ಸೆಲ್ಯುಲಾರ್ ಬಂಧಿತರಾಗಿದ್ದರು
- (3) ಆಗಾ ಖಾನ್ ಆರಮನೆ
- (4) ಬಂಕೂರ

Options :

- 212807119069-1
- 212807119070-2
- 212807119071-3
- 212807119072-4

Question Number : 233 Question Id : 21280729768 Question Type : MCQ Option Shuffling : No Is Question Mandatory : No Calculator : None  
Response Time : N.A Think Time : N.A Minimum Instruction Time : 0

Correct Marks : 5 Wrong Marks : 1

Question Key Details :

Key	Value
Comprehension	MCQ

छोड़ो भारत चळवळी दरम्यान मोहनदास करमचंद गांधी यांना कोटे टेवण्यात आले होते ?

- (1) अलमोरा तुरुंग
- (2) सेल्युलर तुरुंग
- (3) आगाखान पॅलेस
- (4) बंकर

Options :

- 212807119069-1
- 212807119070-2
- 212807119071-3
- 212807119072-4

Question Number : 233 Question Id : 21280729768 Question Type : MCQ Option Shuffling : No Is Question Mandatory : No Calculator : None  
Response Time : N.A Think Time : N.A Minimum Instruction Time : 0

Correct Marks : 5 Wrong Marks : 1

Question Key Details :

Key	Value
Comprehension	MCQ

ക്രീറ്റ് ഇന്ത്യ പ്രസ്ഥാനത്തിന്റെ കാലത്ത് മേഘൻദ്രാസ് കരംചന്ദ് ഗാന്ധിയെ പാർപ്പിച്ച സ്ഥലം ഏത് ?

- (1) താൽമോറ ജയിൽ
- (2) സെല്യുലാർ ജയിൽ
- (3) ആഗാഖാൻ പാലസ്
- (4) ബറകൂർ

Options :

- 212807119069-1
- 212807119070-2
- 212807119071-3
- 212807119072-4

Question Number : 233 Question Id : 21280729768 Question Type : MCQ Option Shuffling : No Is Question Mandatory : No Calculator : None  
Response Time : N.A Think Time : N.A Minimum Instruction Time : 0

Correct Marks : 5 Wrong Marks : 1

Question Key Details :

Key	Value
Comprehension	MCQ

'ଗାଉଡ଼ ସାବୁ ଆନ୍ଦୋଳନ' ସମୟରେ "ଫୋରୁନ ବାସ ଚରମଗାମ ରାଜ୍ୟ"କୁ କେଉଁ ସାମରେ ଉପାସାୟିତା ?

- (1) ଆଲମୋରା ଜେଲ୍
- (2) ସେଲୁଲାର୍ ଜେଲ୍
- (3) ଆଗା ଖାନ୍ ପେଲେସ୍
- (4) ବାଲୁରା

Options :

- 212807119069 : 1  
212807119070 : 2  
212807119071 : 3  
212807119072 : 4

Question Number : 253 Question Id : 21280729768 Question Type : MCQ Option Shuffling : No Is Question Mandatory : No Calculator : None  
Response Time : N.A Think Time : N.A Minimum Instruction Time : 0

Correct Marks : 5 Wrong Marks : 1

Question Key Details :

Key	Value
Comprehension	MCQ

ਉਸ ਸਥਾਨ ਦਾ ਨਾਂ ਦੱਸੋ ਜਿੱਥੇ ਗਾਂਧੀ ਜੀ ਨੂੰ 'ਭਾਰਤ ਛੱਡੋ ਅੰਦੋਲਨ' ਸਮੇਂ ਰੱਖਿਆ ਗਿਆ?

- (1) ਅਲਮੋਰਾ ਜੇਲ
- (2) ਸੈਲੂਲਰ ਜੇਲ
- (3) ਆਖਾ ਖਾਨ ਪੈਲੇਸ
- (4) ਬੰਡੂਰਾ

Options :

- 212807119069 : 1  
212807119070 : 2  
212807119071 : 3  
212807119072 : 4

Question Number : 253 Question Id : 21280729768 Question Type : MCQ Option Shuffling : No Is Question Mandatory : No Calculator : None  
Response Time : N.A Think Time : N.A Minimum Instruction Time : 0

Correct Marks : 5 Wrong Marks : 1

Question Key Details :

Key	Value
Comprehension	MCQ

'ਵੇਗਲੈਯਾਯੇ ਵੇਗਲੈਯੇ' ୟੁਯਕਕਠ੍ਠਿਨ ਡੋਪਾਠੁ 'ਡੋਪਾਕਨ੍ਠਾਠ੍ ਕਰਡ੍ਠ੍ਠ੍ ਕਾਨ੍ਠ੍ਠ੍' ਠੈਵਕਕਪਪ੍ਠ੍ ୟੁਠ੍ਠ੍?

- (1) ਅਲਮੋਰਾ ਜੇਲ
- (2) ਸੈਲੂਲਰ ਜੇਲ
- (3) ਆਖਾ ਖਾਨ ਪੈਲੇਸ
- (4) ਬੰਡੂਰਾ

Options :

- 212807119069 : 1  
212807119070 : 2  
212807119071 : 3  
212807119072 : 4

Question Number : 253 Question Id : 21280719765 Question Type : MCQ Option Shuffling : No Is Question Mandatory : No Calculator : None  
Response Time : N.A Think Time : N.A Minimum Instruction Time : 0

Correct Marks : 5 Wrong Marks : 1

Question Key Details :

Key	Value
Comprehension	MCQ

"క్విట్ ఇండియా ఉద్యమం"లో మోహన్‌దాస్ కరమచంద్ గాంధీ గారిని ఎక్కడ ఉంచారు ?

- (1) అల్మోరా జైలులో
- (2) సెల్బ్యులర్ జైలులో
- (3) అగాఖాన్ ప్యాలస్
- (4) బంకురా

Options :

- 212807119069 1
- 212807119070 2
- 212807119071 3
- 212807119072 4

Question Number : 253 Question Id : 21280719765 Question Type : MCQ Option Shuffling : No Is Question Mandatory : No Calculator : None  
Response Time : N.A Think Time : N.A Minimum Instruction Time : 0

Correct Marks : 5 Wrong Marks : 1

Question Key Details :

Key	Value
Comprehension	MCQ

ہندوستان اچھوڑو کر یک کے دور ان موہن داس کرم چند گاندھی کو کہاں رکھا گیا تھا ؟

- (1) آلمورا جیل
- (2) سیلارجیل
- (3) آغا خان جیل
- (4) بانکورا

Options :

- 212807119069 1
- 212807119070 2
- 212807119071 3
- 212807119072 4

Question Number : 254 Question Id : 21280719769 Question Type : MCQ Option Shuffling : No Is Question Mandatory : No Calculator : None  
Response Time : N.A Think Time : N.A Minimum Instruction Time : 0

Correct Marks : 5 Wrong Marks : 1

Question Key Details :

Key	Value
Comprehension	MCQ

The first experimental satellite launched by India in 1975 is \_\_\_\_\_.

- (1) Rohini
- (2) Rohini D1
- (3) Bhaskar II
- (4) Aryabhata

Options :

- 212807119072 1

212507119074 1  
212507119075 3  
212507119076 4

Question Number : 254 Question Id : 21250729769 Question Type : MCQ Option Shuffling : No Is Question Mandatory : No Calculator : None  
Response Time : N.A Think Time : N.A Minimum Instruction Time : 0

Correct Marks : 5 Wrong Marks : 1

Question Key Details :

Key	Value
Comprehension	MCQ

1975 में भारत ने प्रथम प्रयोगात्मक उपग्रह \_\_\_\_\_ प्रक्षेपित किया था।

- (1) रोहिणी
- (2) रोहिणी-डी I
- (3) भास्कर-II
- (4) आर्याभट्ट

Options :

212507119073 1  
212507119074 1  
212507119075 3  
212507119076 4

Question Number : 254 Question Id : 21250729769 Question Type : MCQ Option Shuffling : No Is Question Mandatory : No Calculator : None  
Response Time : N.A Think Time : N.A Minimum Instruction Time : 0

Correct Marks : 5 Wrong Marks : 1

Question Key Details :

Key	Value
Comprehension	MCQ

1975 त भारत ने उल्कापथ कवा परीक्षामूलक उपग्रहको हैजे \_\_\_\_\_।

- (1) रोहिणी
- (2) रोहिणी II
- (3) भास्कर II
- (4) आर्याभट्ट

Options :

212507119073 1  
212507119074 1  
212507119075 3  
212507119076 4

Question Number : 254 Question Id : 21250729769 Question Type : MCQ Option Shuffling : No Is Question Mandatory : No Calculator : None  
Response Time : N.A Think Time : N.A Minimum Instruction Time : 0

Correct Marks : 5 Wrong Marks : 1

Question Key Details :

Key	Value
Comprehension	MCQ



1975 সালে ভারতের প্রথম প্রক্ষেপিত পরীক্ষামূলক উপগ্রহ হল \_\_\_\_\_।

- (1) রোহিনি
- (2) রোহিনি II
- (3) ভাস্কর II
- (4) আৰ্যভট্ট

Options :

- 112807119073 1  
112807119074 2  
112807119075 3  
112807119076 4

Question Number : 254 Question Id : 21280729769 Question Type : MCQ Option Shuffling : No Is Question Mandatory : No Calculator : None  
Response Time : N.A Think Time : N.A Minimum Instruction Time : 0

Correct Marks : 5 Wrong Marks : 1

Question Key Details :

Key	Value
Comprehension	MCQ

1975 માં ભારત વડે પ્રથમ પ્રાયોજિત ઉપગ્રહ પ્રસ્થાપિત (તત્કાલે મુકવામાં) કરવામાં આવ્યો હતો તેનું નામ \_\_\_\_\_ છે.

- (1) રોહિણી
- (2) રોહિણી D1
- (3) ભાસ્કર II
- (4) આર્યભટ્ટ

Options :

- 112807119073 1  
112807119074 2  
112807119075 3  
112807119076 4

Question Number : 254 Question Id : 21280729769 Question Type : MCQ Option Shuffling : No Is Question Mandatory : No Calculator : None  
Response Time : N.A Think Time : N.A Minimum Instruction Time : 0

Correct Marks : 5 Wrong Marks : 1

Question Key Details :

Key	Value
Comprehension	MCQ

ಭಾರತದಿಂದ ಮೊಟ್ಟಮೊದಲು ಹಾರಿಸಲ್ಪಟ್ಟ ಪ್ರಾಯೋಗಿಕ ಸ್ಯಾಟಲೈಟ್‌ನ ಹೆಸರು :

- (1) ರೋಹಿನಿ
- (2) ರೋಹಿನಿ D1
- (3) ಭಾಸ್ಕರ್ II
- (4) ಆರ್ಯಭಟ್ಟ

Options :

- 112807119073 1  
112807119074 2  
112807119075 3  
112807119076 4

Question Number : 254 Question Id : 21280729769 Question Type : MCQ Option Shuffling : No Is Question Mandatory : No Calculator : None  
Response Time : N.A Think Time : N.A Minimum Instruction Time : 0

Correct Marks : 5 Wrong Marks : 1

Question Key Details :

Key	Value
Comprehension	MCQ

1975 मध्ये भारताने प्रक्षेपित केलेला पहिला प्रायोगिक उपग्रह म्हणजे \_\_\_\_\_

- (1) रोहिणी
- (2) रोहिणी DI
- (3) भास्कर II
- (4) आर्यभट्ट

Options :

- 212807119073 1  
212807119074 2  
212807119075 3  
212807119076 4

Question Number : 384 Question Id : 21280729769 Question Type : MCQ Option Shuffling : No Is Question Mandatory : No Calculator : None Response Time : N.A Think Time : N.A Minimum Instruction Time : 0

Correct Marks : 5 Wrong Marks : 1

Question Key Details :

Key	Value
Comprehension	MCQ

1975 ൽ ഇന്ത്യ വിക്ഷേപിച്ച ആദ്യത്തെ പരീക്ഷണ ഉപഗ്രഹം ഏത് ?

- (1) രോഹിണി
- (2) രോഹിണി ഡി I
- (3) ഭാസ്കർ II
- (4) ആര്യഭട്ട

Options :

- 212807119073 1  
212807119074 2  
212807119075 3  
212807119076 4

Question Number : 264 Question Id : 21280729769 Question Type : MCQ Option Shuffling : No Is Question Mandatory : No Calculator : None Response Time : N.A Think Time : N.A Minimum Instruction Time : 0

Correct Marks : 5 Wrong Marks : 1

Question Key Details :

Key	Value
Comprehension	MCQ

ପ୍ରଥମ ପରୀକ୍ଷାଗୁଡ଼ିକର ଉପଗ୍ରହ \_\_\_\_\_ ଭାବେ ଦ୍ୱାରା 1975 ମସିହାରେ ପଠାଯାଇଥିଲା ?

- (1) ରୋହିଣୀ
- (2) ରୋହିଣୀ DI
- (3) ଭାସ୍କର II
- (4) ଆର୍ଯ୍ୟଭଟ୍ଟ

Options :

- 212807119073 1  
212807119074 2  
212807119075 3  
212807119076 4

Question Number : 254 Question Id : 21280719769 Question Type : MCQ Option Shuffling : No Is Question Mandatory : No Calculator : None  
Response Time : N.A Think Time : N.A Minimum Instruction Time : 0

Correct Marks : 5 Wrong Marks : 1

Question Key Details :

Key	Value
Comprehension	MCQ

ਭਾਰਤ ਦੁਆਰਾ 1975 ਵਿੱਚ ਆਰੰਭ ਕੀਤੇ ਗਏ ਪਹਿਲੇ ਪ੍ਰਯੋਗਾਤਮਕ ਉਪਗ੍ਰਹਿ ਦਾ ਨਾਮ ਦੱਸੋ :

- (1) ਰੋਹਿਨੀ
- (2) ਰੋਹਿਨੀ D1
- (3) ਭਾਸਕਰ II
- (4) ਆਰਯਛੱਟਾ

Options :

212807119073 1

212807119074 2

212807119075 3

212807119076 4

Question Number : 254 Question Id : 21280719769 Question Type : MCQ Option Shuffling : No Is Question Mandatory : No Calculator : None  
Response Time : N.A Think Time : N.A Minimum Instruction Time : 0

Correct Marks : 5 Wrong Marks : 1

Question Key Details :

Key	Value
Comprehension	MCQ

1975 ਆਮ ਆਨੰਦਿਲੁੰ ਇੰਨੁੰਤਿਯਾਵਾਲੁੰ ਓਵੁੰਪੁੰਪੁੰਦੁੰ ਮੁਤੁੰਲੁੰ ਸੁੰਸ਼ਾਤੁੰਨਾਨੁੰ  
ਸੁੰਸ਼ਯੁੰਰੁੰਠਾਕੁੰਕੁੰਨੁੰਗੁੰਗੁੰ ਆੁੰ ਕੁੰਮੁੰ.

- (1) ਰੋਰਾਕੁੰਨੁੰ
- (2) ਰੋਰਾਕੁੰਨੁੰ ਡਿ.ਐ.
- (3) ਇੰਰੁੰਨੁੰਦਾਮੁੰ ਪਾਸੁੰਕੁੰਰੁੰ
- (4) ਆੁੰਰੁੰਯੁੰਪੁੰਦੁੰਦਾ

Options :

212807119073 1

212807119074 2

212807119075 3

212807119076 4

Question Number : 254 Question Id : 21280719769 Question Type : MCQ Option Shuffling : No Is Question Mandatory : No Calculator : None  
Response Time : N.A Think Time : N.A Minimum Instruction Time : 0

Correct Marks : 5 Wrong Marks : 1

Question Key Details :

Key	Value
Comprehension	MCQ

1975 లో భారతదేశం చే ప్రయోగించబడిన మొదటి ప్రయోగాత్మక సాటిలైట్ పేరు ?

- (1) రోహిణి
- (2) రోహిణి DI
- (3) ధాస్యర్ II
- (4) కార్యభట్ట

Options :

- 112807119073 1
- 112807119074 2
- 112807119073 3
- 112807119074 4

Question Number : 264 Question Id : 21280729769 Question Type : MCQ Option Shuffling : No Is Question Mandatory : No Calculator : None  
Response Time : N.A Think Time : N.A Minimum Instruction Time : 0

Correct Marks : 5 Wrong Marks : 1

Question Key Details :

Key	Value
Comprehension	MCQ

1975 میں ہندوستان نے پہلا تجرباتی سیٹ لائیج کیا اس کا نام ہے \_\_\_\_\_

- (1) روہی
- (2) DI روہی
- (3) بھاسکر II
- (4) آریہ بھٹ

Options :

- 112807119073 1
- 112807119074 2
- 112807119073 3
- 112807119074 4

Question Number : 255 Question Id : 21280729770 Question Type : MCQ Option Shuffling : No Is Question Mandatory : No Calculator : None  
Response Time : N.A Think Time : N.A Minimum Instruction Time : 0

Correct Marks : 5 Wrong Marks : 1

Question Key Details :

Key	Value
Comprehension	MCQ

Which of the following is the most electro-negative element ?

- (1) Hydrogen
- (2) Oxygen
- (3) Fluorine
- (4) Nitrogen

Options :

- 112807119077 1
- 112807119078 2
- 112807119079 3
- 112807119080 4

Question Number : 255 Question Id : 21280719770 Question Type : MCQ Option Shuffling : No Is Question Mandatory : No Calculator : None  
Response Time : N.A Think Time : N.A Minimum Instruction Time : 0

Correct Marks : 5 Wrong Marks : 1

Question Key Details :

Key	Value
Comprehension	MCQ

নিম্নলিখিত में से कौन सा सर्वाधिक इलेक्ट्रो-नेगेटिव तत्व है ?

- (1) हाइड्रोजन
- (2) ऑक्सीजन
- (3) फ्लोरिन
- (4) नाइट्रोजन

Options :

21280719077 1

21280719078 2

21280719079 3

21280719080 4

Question Number : 265 Question Id : 21280729770 Question Type : MCQ Option Shuffling : No Is Question Mandatory : No Calculator : None  
Response Time : N.A Think Time : N.A Minimum Instruction Time : 0

Correct Marks : 5 Wrong Marks : 1

Question Key Details :

Key	Value
Comprehension	MCQ

তলৰ কোনটো অণুইহঁতে বেছি বিদ্যুৎ ঋণাত্মক উপাদান ?

- (1) হাইড্রজেন
- (2) অক্সিজেন
- (3) ফ্লুরিন
- (4) নাইট্রজেন

Options :

21280719077 1

21280719078 2

21280719079 3

21280719080 4

Question Number : 335 Question Id : 21280729770 Question Type : MCQ Option Shuffling : No Is Question Mandatory : No Calculator : None  
Response Time : N.A Think Time : N.A Minimum Instruction Time : 0

Correct Marks : 5 Wrong Marks : 1

Question Key Details :

Key	Value
Comprehension	MCQ

নিম্নের কোনটি সবচেয়ে তড়িৎ ঋণাত্মক মৌল ?

- (1) হাইড্রোজেন
- (2) অক্সিজেন
- (3) ফ্লুরিন
- (4) নাইট্রোজেন

Options :

21280719077 1

21280719078 2

212507119079-3  
212507119080-4

Question Number : 285 Question Id : 21250719770 Question Type : MCQ Option Shuffling : No Is Question Mandatory : No Calculator : None  
Response Time : N.A Think Time : N.A Minimum Instruction Time : 0

Correct Marks : 5 Wrong Marks : 1

Question Key Details :

Key	Value
Comprehension	MCQ

नीचे आपेलामांथी क्यो सीधी वधु विद्युतकलमय ताल्य छे?

- (1) हाईड्रोजन
- (2) ऑक्सिजन
- (3) फ्लोरिन
- (4) नाईट्रोजन

Options :

212507119077-1  
212507119078-2  
212507119079-3  
212507119080-4

Question Number : 285 Question Id : 21250719770 Question Type : MCQ Option Shuffling : No Is Question Mandatory : No Calculator : None  
Response Time : N.A Think Time : N.A Minimum Instruction Time : 0

Correct Marks : 5 Wrong Marks : 1

Question Key Details :

Key	Value
Comprehension	MCQ

ಕೆಳಗಿನವುಗಳಲ್ಲಿ ಯಾವುದು ಅತ್ಯಂತ ವಿದ್ಯುತ್-ಸುರಕ್ಷಿತ ಧಾತು ?

- (1) ಜಲಜನಕ
- (2) ಆವುಜನಕ
- (3) ಫ್ಲೋರ್
- (4) ಸಾರಜನಕ

Options :

212507119077-1  
212507119078-2  
212507119079-3  
212507119080-4

Question Number : 285 Question Id : 21250719770 Question Type : MCQ Option Shuffling : No Is Question Mandatory : No Calculator : None  
Response Time : N.A Think Time : N.A Minimum Instruction Time : 0

Correct Marks : 5 Wrong Marks : 1

Question Key Details :

Key	Value
Comprehension	MCQ

पुढीलपैकी कोणता घटक सर्वाधिक विद्युत अपवाहक आहे ?

- (1) हायड्रोजन
- (2) ऑक्सिजन
- (3) फ्लोरिन
- (4) नायट्रोजन

Options :

212807119077:1  
212807119078:2  
212807119079:3  
212807119080:4

Question Number : 235 Question Id : 21280729770 Question Type : MCQ Option Shuffling : No Is Question Mandatory : No Calculator : None  
Response Time : N.A Think Time : N.A Minimum Instruction Time : 0

Correct Marks : 5 Wrong Marks : 1

Question Key Details :

Key	Value
Comprehension	MCQ

താഴെ കൊടുത്തിട്ടുള്ളവയിൽ ഏറ്റവും ഇലക്ട്രോ നെഗറ്റീവ് ആയ മൂലകം ഏത് ?

- (1) ഹൈഡ്രജൻ
- (2) ഓക്സിജൻ
- (3) ഫ്ലൂറൈൻ
- (4) നൈട്രജൻ

Options :

212807119077:1  
212807119078:2  
212807119079:3  
212807119080:4

Question Number : 235 Question Id : 21280729770 Question Type : MCQ Option Shuffling : No Is Question Mandatory : No Calculator : None  
Response Time : N.A Think Time : N.A Minimum Instruction Time : 0

Correct Marks : 5 Wrong Marks : 1

Question Key Details :

Key	Value
Comprehension	MCQ

റിറ്റ്യോള മേൽ ശുദ്ധ മരൈന്ദ്രോ-സെസെൻഡ്രൂ മവാദൻ ?

- (1) മരൈന്ദ്രോ
- (2) മരൈൻ
- (3) മരൈൻ
- (4) മരൈൻ

Options :

212807119077:1  
212807119078:2  
212807119079:3  
212807119080:4

Question Number : 235 Question Id : 21280729770 Question Type : MCQ Option Shuffling : No Is Question Mandatory : No Calculator : None  
Response Time : N.A Think Time : N.A Minimum Instruction Time : 0

Correct Marks : 5 Wrong Marks : 1

Question Key Details :

Key	Value
Comprehension	MCQ

ਹੇਠ ਲਿਖਿਆਂ ਵਿਚੋਂ ਸਭ ਤੋਂ ਵੱਧ ਇਲਕਟ੍ਰੋ ਨਾਕਾਰਜਮਕ ਭੱਜ ਕਿਹੜਾ ਹੈ?

- (1) ਹਾਈਡਰੋਜਨ
- (2) ਆਕਸੀਜਨ
- (3) ਫਲੋਰਾਈਨ
- (4) ਨਾਈਟਰੋਜਨ

Options :

212507119077 1

212507119078 2

212507119079 3

212507119080 4

Question Number : 285 Question Id : 21250729770 Question Type : MCQ Option Shuffling : No Is Question Mandatory : No Calculator : None  
Response Time : N.A Think Time : N.A Minimum Instruction Time : 0

Correct Marks : 5 Wrong Marks : 1

Question Key Details :

Key	Value
Comprehension	MCQ

ਪਿੰਨ੍ਹੇ ਵਰਨਾਵਲ ਵਿੱਚ ਮਿੱਠੇ ਅਤੇ ਮਿੱਠੇ-ਸੁੱਖਮਿੱਠੇ ਖਾਣੀਆਂ ਦੀ ਸੂਚੀ ਹੈ।

- (1) ਸ਼ੀਰਸ਼
- (2) ਖੁੱਖਰੀ
- (3) ਚਿੱਕਰੀ
- (4) ਚਿੱਕਰੀ

Options :

212507119077 1

212507119078 2

212507119079 3

212507119080 4

Question Number : 285 Question Id : 21250729770 Question Type : MCQ Option Shuffling : No Is Question Mandatory : No Calculator : None  
Response Time : N.A Think Time : N.A Minimum Instruction Time : 0

Correct Marks : 5 Wrong Marks : 1

Question Key Details :

Key	Value
Comprehension	MCQ

ਕੋਰੀ ਵਾਈਲੋਂ ਵੀ ਵੱਧ ਵੱਧ ਵਿਦਿਅਕ-ਸਾਹਿਤਕ ਮੁੱਲਕ ?

- (1) ਪ੍ਰੈਜ਼ੀਡੈਂਟ
- (2) ਅਕੈਡਮਿਕ
- (3) ਫਿਲੋਸਾਫੀ
- (4) ਨੈਚਰਲ

Options :

212507119077 1

212507119078 2

212507119079 3

212507119080 4



Question Number : 255 Question Id : 21280719770 Question Type : MCQ Option Shuffling : No Is Question Mandatory : No Calculator : None  
Response Time : N.A Think Time : N.A Minimum Instruction Time : 0

Correct Marks : 5 Wrong Marks : 1

Question Key Details :

Key	Value
Comprehension	MCQ

مندرجہ ذیل میں سے کون سا سب سے زیادہ برقی منتقلی عناصر ہیں؟

(1) ہائڈروجن

(2) آکسیجن

(3) فلورائن

(4) نائٹروجن

Options :

212807119077 3

212807119078 3

212807119079 3

212807119080 4

Question Number : 256 Question Id : 21280729771 Question Type : MCQ Option Shuffling : No Is Question Mandatory : No Calculator : None  
Response Time : N.A Think Time : N.A Minimum Instruction Time : 0

Correct Marks : 5 Wrong Marks : 1

Question Key Details :

Key	Value
Comprehension	MCQ

Which human body organ can regrow ?

(1) Liver

(2) Kidney

(3) Lungs

(4) Heart

Options :

212807119081 1

212807119082 2

212807119083 3

212807119084 4

Question Number : 256 Question Id : 21280729771 Question Type : MCQ Option Shuffling : No Is Question Mandatory : No Calculator : None  
Response Time : N.A Think Time : N.A Minimum Instruction Time : 0

Correct Marks : 5 Wrong Marks : 1

Question Key Details :

Key	Value
Comprehension	MCQ

मानव शरीर का कौन-सा अंग पुनर्जन्य हो सकता है ?

(1) यकृत

(2) गुदा

(3) फेफड़े

(4) हृदय

Options :

212807119081 1

212807119082 1

212807119083 3

212507119084-4

Question Number : 286 Question Id : 21250729771 Question Type : MCQ Option Shuffling : No Is Question Mandatory : No Calculator : None  
Response Time : N.A Think Time : N.A Minimum Instruction Time : 0  
Correct Marks : 5 Wrong Marks : 1  
Question Key Details :

Key	Value
Comprehension	MCQ

মানব শৰীৰৰ কোনটো অংগ আকৌ বিকশিত হ'ব পাৰে ?

- (1) যকৃত
- (2) বৃক্ক
- (3) হাঁহুৰ্বাঁও
- (4) হৃদপিণ্ড

Options :

212507119081-1  
212507119082-2  
212507119083-3  
212507119084-4

Question Number : 336 Question Id : 21250729771 Question Type : MCQ Option Shuffling : No Is Question Mandatory : No Calculator : None  
Response Time : N.A Think Time : N.A Minimum Instruction Time : 0  
Correct Marks : 5 Wrong Marks : 1  
Question Key Details :

Key	Value
Comprehension	MCQ

মানবদেহেৰ কোন অঙ্গ পুনৰায় বৃদ্ধি কৰতে পাৰে ?

- (1) যকৃত
- (2) বৃক্ক
- (3) ফুসফুস
- (4) হৃদপিণ্ড

Options :

212507119081-1  
212507119082-2  
212507119083-3  
212507119084-4

Question Number : 286 Question Id : 21250729771 Question Type : MCQ Option Shuffling : No Is Question Mandatory : No Calculator : None  
Response Time : N.A Think Time : N.A Minimum Instruction Time : 0  
Correct Marks : 5 Wrong Marks : 1  
Question Key Details :

Key	Value
Comprehension	MCQ

মানব শৰীৰত পুনৰ্জীৱিত অথবা অঁজা নু নাম আৰ্থে।

- (1) যকৃত
- (2) ভিটমিন
- (3) হাঁহুৰ্বাঁও
- (4) হৃদপিণ্ড

Options :

212507119081 1  
212507119082 2  
212507119083 3  
212507119084 4

Question Number : 235 Question Id : 21250719771 Question Type : MCQ Option Shuffling : No Is Question Mandatory : No Calculator : None  
Response Time : N.A Think Time : N.A Minimum Instruction Time : 0

Correct Marks : 5 Wrong Marks : 1

Question Key Details :

Key	Value
Comprehension	MCQ

ಮಾನವ ಶರೀರದ ಅಮೂಲನಕವು ಪುನರ್‌ಉತ್ಪತ್ತಿಯಾಗುವುದನ್ನು ಹೆಸರಿಸಿ.

- (1) ವಿಶ್ವಜನಕಾಂಗ
- (2) ಮೂತ್ರಪಿಂಡ
- (3) ಶ್ವಾಸಕೋಶಗಳು
- (4) ಹೃದಯ

Options :

212507119081 1  
212507119082 2  
212507119083 3  
212507119084 4

Question Number : 236 Question Id : 21250719771 Question Type : MCQ Option Shuffling : No Is Question Mandatory : No Calculator : None  
Response Time : N.A Think Time : N.A Minimum Instruction Time : 0

Correct Marks : 5 Wrong Marks : 1

Question Key Details :

Key	Value
Comprehension	MCQ

ಮಾನವಿ ಶರೀರಾಚಾ ಕ್ರೋಢತಾ ಅವಯವ ಪುನರ್‌ವಿಕ್ಷಿಪ್ತ ಅಸತೆ ?

- (1) ಸಕೃತ
- (2) ವೃಕ್ಕ (ಕಿಡನಿ)
- (3) ಕುಪಕುಸ
- (4) ಹೃದಯ

Options :

212507119081 1  
212507119082 2  
212507119083 3  
212507119084 4

Question Number : 236 Question Id : 21250719771 Question Type : MCQ Option Shuffling : No Is Question Mandatory : No Calculator : None  
Response Time : N.A Think Time : N.A Minimum Instruction Time : 0

Correct Marks : 5 Wrong Marks : 1

Question Key Details :

Key	Value
Comprehension	MCQ

മനുഷ്യ ശരീരത്തിലെ ഏത് അവയവത്തിനാണ് പ്യനക്യജീവനത്തിനുള്ള കഴിവുള്ളത് ?

- (1) കരൾ
- (2) വൃക്ക
- (3) ശ്വാസകോശം
- (4) ഹൃദയം

Options :

- 212807119081 1
- 212807119082 2
- 212807119083 3
- 212807119084 4

Question Number : 256 Question Id : 21280719771 Question Type : MCQ Option Shuffling : No Is Question Mandatory : No Calculator : None  
Response Time : N.A Think Time : N.A Minimum Instruction Time : 0

Correct Marks : 5 Wrong Marks : 1

Question Key Details :

Key	Value
Comprehension	MCQ

ഒരു നിലയ്ക്ക് ഉണ്ടാകാൻ സാധിക്കുന്ന തരം തരങ്ങൾ ?

- (1) മൂന്നു
- (2) രണ്ടു
- (3) ഏഴു
- (4) മൂന്നു

Options :

- 212807119081 1
- 212807119082 2
- 212807119083 3
- 212807119084 4

Question Number : 256 Question Id : 21280719771 Question Type : MCQ Option Shuffling : No Is Question Mandatory : No Calculator : None  
Response Time : N.A Think Time : N.A Minimum Instruction Time : 0

Correct Marks : 5 Wrong Marks : 1

Question Key Details :

Key	Value
Comprehension	MCQ

മനുഷ്യ ശരീരം വിട്ടുപോകാൻ സാധിക്കുന്ന തരം തരങ്ങൾ ?

- (1) മൂന്നു
- (2) രണ്ടു
- (3) ഏഴു
- (4) മൂന്നു

Options :

- 212807119081 1
- 212807119082 2
- 212807119083 3
- 212807119084 4

Question Number : 256 Question Id : 21280719771 Question Type : MCQ Option Shuffling : No Is Question Mandatory : No Calculator : None  
Response Time : N.A Think Time : N.A Minimum Instruction Time : 0

Correct Marks : 5 Wrong Marks : 1

Question Key Details :

Key	Value
Comprehension	MCQ

எந்த மனித உடல் உறுப்பு மீண்டும் வளரக்கூடியது?

- (1) ஈரற்கூலை
- (2) குண்டிக்காய்
- (3) நுரையீரல்
- (4) நெஞ்சப்பை

Options :

- 212807119081: 1  
212807119082: 1  
212807119083: 3  
212807119084: 4

Question Number : 256 Question Id : 21280729771 Question Type : MCQ Option Shuffling : No Is Question Mandatory : No Calculator : None  
Response Time : N.A Think Time : N.A Minimum Instruction Time : 0

Correct Marks : 5 Wrong Marks : 1

Question Key Details :

Key	Value
Comprehension	MCQ

పనరుత్పత్తి చెండు మానవ శరీర అవయవం పేరు ?

- (1) కాలేయం
- (2) మాత్రపిండం
- (3) ఊపిరితిత్తులు
- (4) గుండె

Options :

- 212807119081: 1  
212807119082: 1  
212807119083: 3  
212807119084: 4

Question Number : 256 Question Id : 21280729771 Question Type : MCQ Option Shuffling : No Is Question Mandatory : No Calculator : None  
Response Time : N.A Think Time : N.A Minimum Instruction Time : 0

Correct Marks : 5 Wrong Marks : 1

Question Key Details :

Key	Value
Comprehension	MCQ

انسانی جسم کے کس حصے کی دوبارہ نشوونما ہو سکتی ہے ؟

- (1) لیر
- (2) کڈنی
- (3) ہیمپٹرا
- (4) دل

Options :

- 212807119081: 1  
212807119082: 3

212507119083 3  
212507119084 4

Question Number : 35\* Question Id : 21250719772 Question Type : MCQ Option Shuffling : No Is Question Mandatory : No Calculator : None  
Response Time : N.A Think Time : N.A Minimum Instruction Time : 0  
Correct Marks : 5 Wrong Marks : 1

Question Key Details :

Key	Value
Comprehension	MCQ

SI unit of temperature is \_\_\_\_\_.

- (1) Kelvin
- (2) Celsius
- (3) Fahrenheit
- (4) Rankine

Options :

212507119083 1  
212507119084 2  
212507119085 3  
212507119086 4

Question Number : 36\* Question Id : 21250719772 Question Type : MCQ Option Shuffling : No Is Question Mandatory : No Calculator : None  
Response Time : N.A Think Time : N.A Minimum Instruction Time : 0

Correct Marks : 5 Wrong Marks : 1

Question Key Details :

Key	Value
Comprehension	MCQ

तापमान का SI मात्रक क्या है?

- (1) केल्विन
- (2) सेल्सियस
- (3) फारेनहाइट
- (4) रॉन्किन

Options :

212507119083 1  
212507119084 2  
212507119085 3  
212507119086 4

Question Number : 37\* Question Id : 21250719772 Question Type : MCQ Option Shuffling : No Is Question Mandatory : No Calculator : None  
Response Time : N.A Think Time : N.A Minimum Instruction Time : 0

Correct Marks : 5 Wrong Marks : 1

Question Key Details :

Key	Value
Comprehension	MCQ

উষ্ণতার S.I. একক হৈছে \_\_\_\_\_।

- (1) কেলভিন
- (2) ডেলচিয়াছ
- (3) ফারেণহাইট
- (4) রেন্কিন

Options :

212507119083 1

212507119086 1  
212507119087 3  
212507119088 4

Question Number : 285 Question Id : 21250729772 Question Type : MCQ Option Shuffling : No Is Question Mandatory : No Calculator : None  
Response Time : N.A Think Time : N.A Minimum Instruction Time : 0

Correct Marks : 5 Wrong Marks : 1

Question Key Details :

Key	Value
Comprehension	MCQ

ಅಪಮಾಹಾರ S.I. ಏಕಕ ಒಲ \_\_\_\_\_ |

- (1) ಕೆಲವಿನ್
- (2) ಸೆಲನಿಯಸ್
- (3) ಫಾರ್ಗನಹಾಹಿಟ್
- (4) ರ್ಯಾನ್ಕಿನ್

Options :

212507119086 1  
212507119087 3  
212507119088 4  
212507119089 4

Question Number : 287 Question Id : 21250729772 Question Type : MCQ Option Shuffling : No Is Question Mandatory : No Calculator : None  
Response Time : N.A Think Time : N.A Minimum Instruction Time : 0

Correct Marks : 5 Wrong Marks : 1

Question Key Details :

Key	Value
Comprehension	MCQ

ಲಾಭಮಾನ ನೆ S.I. ಏಕಕ ಸುಂಠಿ?

- (1) ಕೆಲ್ವಿನ್
- (2) ಸೆಂಟಿಗ್ರಾಡ್
- (3) ಫೆನ್ಹೆಲ್ಟ್
- (4) ರೆನ್ಕಿನ್ (Rankine)

Options :

212507119086 1  
212507119087 3  
212507119088 4  
212507119089 4

Question Number : 288 Question Id : 21250729772 Question Type : MCQ Option Shuffling : No Is Question Mandatory : No Calculator : None  
Response Time : N.A Think Time : N.A Minimum Instruction Time : 0

Correct Marks : 5 Wrong Marks : 1

Question Key Details :

Key	Value
Comprehension	MCQ

ಉಷ್ಣತೆಯ S.I. ಅಳತೆ ಮಾರಪನವು :

- (1) ಕೆಲ್ವಿನ್
- (2) ಸೆಂಟಿಗ್ರಾಡ್
- (3) ಫಾರ್ನಹೈಟ್
- (4) ರೆನ್ಕಿನ್

Options :

- 212807119085 1
- 212807119086 2
- 212807119087 3
- 212807119088 4

Question Number : 237 Question Id : 21280729772 Question Type : MCQ Option Shuffling : No Is Question Mandatory : No Calculator : None  
Response Time : N.A Think Time : N.A Minimum Instruction Time : 0

Correct Marks : 5 Wrong Marks : 1

Question Key Details :

Key	Value
Comprehension	MCQ

तापमानाचे S.I. एकाक \_\_\_\_\_ आहे.

- (1) केल्विन
- (2) सेल्सियस
- (3) फॅरेनहाइट
- (4) रेन्किन

Options :

- 212807119085 1
- 212807119086 2
- 212807119087 3
- 212807119088 4

Question Number : 238 Question Id : 21280729772 Question Type : MCQ Option Shuffling : No Is Question Mandatory : No Calculator : None  
Response Time : N.A Think Time : N.A Minimum Instruction Time : 0

Correct Marks : 5 Wrong Marks : 1

Question Key Details :

Key	Value
Comprehension	MCQ

ഊഷ്മാവയുടെ എസ്.ഐ. യൂണിറ്റ് ഏത് ?

- (1) കെൽവിൻ
- (2) സെൽഷ്യസ്
- (3) ഫാരൻഹീറ്റ്
- (4) റാങ്കിൻ

Options :

- 212807119085 1
- 212807119086 2
- 212807119087 3
- 212807119088 4

Question Number : 237 Question Id : 21280729772 Question Type : MCQ Option Shuffling : No Is Question Mandatory : No Calculator : None  
Response Time : N.A Think Time : N.A Minimum Instruction Time : 0

Correct Marks : 5 Wrong Marks : 1

Question Key Details :

Key	Value
Comprehension	MCQ



ଉତ୍ତରାଳ \_\_\_\_\_ S.I. ଏକକ ।

- (1) ଚେଲିଜ୍
- (2) ଇମାଲ୍‌ସିଭ୍
- (3) ପାରସେଲାଇଟ୍
- (4) ରାଉଲିଜ୍

Options :

212807119085 1

212807119086 2

212807119087 3

212807119088 4

Question Number : 287 Question Id : 21280719772 Question Type : MCQ Option Shuffling : No Is Question Mandatory : No Calculator : None  
Response Time : N.A Think Time : N.A Minimum Instruction Time : 0

Correct Marks : 5 Wrong Marks : 1

Question Key Details :

Key	Value
Comprehension	MCQ

S.I. ତାପମାନର ଏକକ କଣ :

- (1) ବୈଲିଜ୍
- (2) ମେଲିଆମ
- (3) ହେଲିଆମ
- (4) ଚେଲିଜ୍

Options :

212807119085 1

212807119086 2

212807119087 3

212807119088 4

Question Number : 287 Question Id : 21280719772 Question Type : MCQ Option Shuffling : No Is Question Mandatory : No Calculator : None  
Response Time : N.A Think Time : N.A Minimum Instruction Time : 0

Correct Marks : 5 Wrong Marks : 1

Question Key Details :

Key	Value
Comprehension	MCQ

S.I. ତାପମାନର ଏକକ କଣ \_\_\_\_\_ ଅଟେ ।

- (1) Kelvin
- (2) ଥର୍ମୋଗ୍ରାଫିକ୍
- (3) ପାରାଲେଲ୍
- (4) ଥର୍ମୋକ୍ରମ୍

Options :

212807119085 1

212807119086 2

212807119087 3

212807119088 4

Question Number : 287 Question Id : 21280719772 Question Type : MCQ Option Shuffling : No Is Question Mandatory : No Calculator : None  
Response Time : N.A Think Time : N.A Minimum Instruction Time : 0

Correct Marks : 5 Wrong Marks : 1

Question Key Details :

Key	Value
Comprehension	MCQ

ఉష్ణోగ్రత యొక్క S.I. ప్రమాణం :

- (1) కెల్విన్
- (2) సెల్సియస్
- (3) ఫారన్ హీట్
- (4) ర్యాంకైన్

Options :

112807119083 1  
112807119084 2  
112807119087 3  
112807119088 4

Question Number : 267 Question Id : 21280729772 Question Type : MCQ Option Shuffling : No Is Question Mandatory : No Calculator : None  
Response Time : N.A Think Time : N.A Minimum Instruction Time : 0

Correct Marks : 5 Wrong Marks : 1

Question Key Details :

Key	Value
Comprehension	MCQ

؟ ہے \_\_\_\_\_ S.I کی اکائی

- (1) کیلویں (Kelvin)
- (2) سెल्सियس (Celsius)
- (3) فارن ہائٹ (Fahrenheit)
- (4) رینکائن (Rankine)

Options :

112807119083 1  
112807119086 2  
112807119087 3  
112807119088 4

Question Number : 268 Question Id : 21280729773 Question Type : MCQ Option Shuffling : No Is Question Mandatory : No Calculator : None  
Response Time : N.A Think Time : N.A Minimum Instruction Time : 0

Correct Marks : 5 Wrong Marks : 1

Question Key Details :

Key	Value
Comprehension	MCQ

\_\_\_\_\_ is called the functional unit of kidney.

- (1) Neuron
- (2) Nephridia
- (3) Nephron
- (4) Alveoli

Options :

112807119089 1  
112807119090 2  
112807119091 3  
112807119092 4

Question Number : 288 Question Id : 21280729773 Question Type : MCQ Option Shuffling : No Is Question Mandatory : No Calculator : None  
Response Time : N.A Think Time : N.A Minimum Instruction Time : 0

Correct Marks : 5 Wrong Marks : 1

Question Key Details :

Key	Value
Comprehension	MCQ

\_\_\_\_\_ को गुर्दे की प्रक्रियात्मक इकाई कहा जाता है।

- (1) तंत्रिकाशिका
- (2) नेफ्रीडिया
- (3) नेफ्रोन (बृक्काणु)
- (4) ऐलिवोली

Options :

212807119089 1  
212807119090 2  
212807119091 3  
212807119092 4

Question Number : 288 Question Id : 21280729773 Question Type : MCQ Option Shuffling : No Is Question Mandatory : No Calculator : None  
Response Time : N.A Think Time : N.A Minimum Instruction Time : 0

Correct Marks : 5 Wrong Marks : 1

Question Key Details :

Key	Value
Comprehension	MCQ

\_\_\_\_\_ का बुझव एटा कार्यकर्त्री एकक बुजि कोवा हय।

- (1) निडिबन
- (2) नेपट्टिडिया
- (3) नेफ्रोन
- (4) एलिवोली

Options :

212807119089 1  
212807119090 2  
212807119091 3  
212807119092 4

Question Number : 288 Question Id : 21280729773 Question Type : MCQ Option Shuffling : No Is Question Mandatory : No Calculator : None  
Response Time : N.A Think Time : N.A Minimum Instruction Time : 0

Correct Marks : 5 Wrong Marks : 1

Question Key Details :

Key	Value
Comprehension	MCQ

बुझेर कार्यकर्त्री एककरके बला हय \_\_\_\_\_।

- (1) निडिबन
- (2) नेपट्टिडिया
- (3) नेफ्रोन
- (4) अयालिवोली

Options :

212807119089 1

212507119090 1  
212507119091 3  
212507119092 4

Question Number : 288 Question Id : 21250729773 Question Type : MCQ Option Shuffling : No Is Question Mandatory : No Calculator : None  
Response Time : N.A Think Time : N.A Minimum Instruction Time : 0

Correct Marks : 5 Wrong Marks : 1

Question Key Details :

Key	Value
Comprehension	MCQ

કિડની ના કાર્યકારી ભાગને \_\_\_\_\_ કહે છે.

- (1) Neuron
- (2) Neptridia
- (3) Nephron
- (4) Alveoli

Options :

212507119089 1  
212507119090 1  
212507119091 3  
212507119092 4

Question Number : 288 Question Id : 21250729773 Question Type : MCQ Option Shuffling : No Is Question Mandatory : No Calculator : None  
Response Time : N.A Think Time : N.A Minimum Instruction Time : 0

Correct Marks : 5 Wrong Marks : 1

Question Key Details :

Key	Value
Comprehension	MCQ

\_\_\_\_\_ અમુ મુદત્ત્વિંદદ ઘટકવેંદુ કરેંયુક્તારે.

- (1) નેફ્રોન
- (2) નેપ્ટ્રિડિયા
- (3) નેફ્રોન
- (4) અલ્વેઓલી

Options :

212507119089 1  
212507119090 1  
212507119091 3  
212507119092 4

Question Number : 288 Question Id : 21250729773 Question Type : MCQ Option Shuffling : No Is Question Mandatory : No Calculator : None  
Response Time : N.A Think Time : N.A Minimum Instruction Time : 0

Correct Marks : 5 Wrong Marks : 1

Question Key Details :

Key	Value
Comprehension	MCQ

\_\_\_\_\_ લા વૃક્કાવે કાર્યાન્વિત એકક મ્હળતાત.

- (1) ન્યૂરોન
- (2) નેપ્ટ્રિડિયા
- (3) નેફ્રોન
- (4) અલ્વેઓલી

Options :

212507119089 1

212807119090: 1  
212807119091: 3  
212807119092: 4

Question Number : 255 Question Id : 21280729773 Question Type : MCQ Option Shuffling : No Is Question Mandatory : No Calculator : None  
Response Time : N.A Think Time : N.A Minimum Instruction Time : 0  
Correct Marks : 5 Wrong Marks : 1

Question Key Details :

Key	Value
Comprehension	MCQ

കിഡ്നിയുടെ ഫങ്ഷണൽ യൂണിറ്റിന് പറ്റിയുന്ന പേരെന്ത് ?

- (1) ന്യൂറോൺ
- (2) നെപിട്രിഡിയ
- (3) നെഫ്രോൺ
- (4) ആൽപിയോളി

Options :

212807119089: 1  
212807119090: 2  
212807119091: 3  
212807119092: 4

Question Number : 256 Question Id : 21280729773 Question Type : MCQ Option Shuffling : No Is Question Mandatory : No Calculator : None  
Response Time : N.A Think Time : N.A Minimum Instruction Time : 0  
Correct Marks : 5 Wrong Marks : 1

Question Key Details :

Key	Value
Comprehension	MCQ

വൃക്കയുടെ ക്വാട്ടർണൽ യൂണിറ്റിന് പറ്റിയുന്ന പേരെന്ത് ?

- (1) ന്യൂറോൺ
- (2) നെപിട്രിഡിയ
- (3) നെഫ്രോൺ
- (4) ആൽപിയോളി

Options :

212807119089: 1  
212807119090: 2  
212807119091: 3  
212807119092: 4

Question Number : 257 Question Id : 21280729773 Question Type : MCQ Option Shuffling : No Is Question Mandatory : No Calculator : None  
Response Time : N.A Think Time : N.A Minimum Instruction Time : 0  
Correct Marks : 5 Wrong Marks : 1

Question Key Details :

Key	Value
Comprehension	MCQ

ਗੁਰਦੇ ਦਾ ਯੂਨਿਟ ਕਹਿਲਾਉਂਦਾ ਹੈ?

- (1) ਨਿਊਰਾਨ
- (2) ਨੋਪਟਰਿਡੀਆ
- (3) ਨੋਡਰਾਨ
- (4) ਐਲਵਿਉਲੀ

Options :

- 212507119089 1  
212507119090 2  
212507119091 3  
212507119092 4

Question Number : 358 Question Id : 21250729773 Question Type : MCQ Option Shuffling : No Is Question Mandatory : No Calculator : None  
Response Time : N.A Think Time : N.A Minimum Instruction Time : 0

Correct Marks : 5 Wrong Marks : 1

Question Key Details :

Key	Value
Comprehension	MCQ

ਜੀਵਾਨੁਕੂਲਤਾ ਦਾ ਸੋਧਲਪਾਦ ( ) ਅਲਗੁ ਯੋਗਿ ਅਯੋਗਿਕਪਪਠੁਕਿਠੁਗੁ

- (1) ਨਿਊਰਾਨ
- (2) Neptidia
- (3) ਨੋਡਰਾਨ
- (4) ਅਲਵਿਉਲੀ

Options :

- 212507119089 1  
212507119090 2  
212507119091 3  
212507119092 4

Question Number : 358 Question Id : 21250729773 Question Type : MCQ Option Shuffling : No Is Question Mandatory : No Calculator : None  
Response Time : N.A Think Time : N.A Minimum Instruction Time : 0

Correct Marks : 5 Wrong Marks : 1

Question Key Details :

Key	Value
Comprehension	MCQ

ਨਿ ਸੁਕੂਲਤਾ ਦਾ ਸੋਧਲਪਾਦ ( ) ਅਲਗੁ ਯੋਗਿ ਅਯੋਗਿਕਪਪਠੁਕਿਠੁਗੁ

- (1) ਨਿਊਰਾਨ
- (2) ਨੋਪਟਰਿਡੀਆ
- (3) ਨੋਡਰਾਨ
- (4) ਅਲਵਿਉਲੀ

Options :

- 212507119089 1  
212507119090 2  
212507119091 3  
212507119092 4

Question Number : 358 Question Id : 21250729773 Question Type : MCQ Option Shuffling : No Is Question Mandatory : No Calculator : None  
Response Time : N.A Think Time : N.A Minimum Instruction Time : 0

Correct Marks : 5 Wrong Marks : 1

Question Key Details :

Key	Value
Comprehension	MCQ

کونکے فی کا عمل اگائی کہا جاتا ہے ؟

(1) نیرون

(2) میٹریڈا

(3) میٹرون

(4) الوائی

Options :

212507119069 1

212507119090 2

212507119091 3

212507119093 4

Question Number : 239 Question Id : 21250729774 Question Type : MCQ Option Shuffling : No Is Question Mandatory : No Calculator : None  
Response Time : N.A Think Time : N.A Minimum Instruction Time : 0

Correct Marks : 5 Wrong Marks : 1

Question Key Details :

Key	Value
Comprehension	MCQ

Match List - I with List - II. (Match the Respiratory Organs of Animal)

List - I

List - II

(A) Lungs

(I) Birds

(B) Gills

(II) Insects centipedes

(C) Trachea

(III) Fish

(D) Airsacs

(IV) Mammals

Choose the most appropriate answer from the options given below :

(1) (A)-(I), (B)-(III), (C)-(II), (D)-(IV)

(2) (A)-(IV), (B)-(III), (C)-(I), (D)-(II)

(3) (A)-(III), (B)-(I), (C)-(II), (D)-(IV)

(4) (A)-(IV), (B)-(III), (C)-(II), (D)-(I)

Options :

212507119093 1

212507119094 2

212507119095 3

212507119096 4

Question Number : 239 Question Id : 21250729774 Question Type : MCQ Option Shuffling : No Is Question Mandatory : No Calculator : None  
Response Time : N.A Think Time : N.A Minimum Instruction Time : 0

Correct Marks : 5 Wrong Marks : 1

Question Key Details :

Key	Value
Comprehension	MCQ

सूची-I से सूची-II का मिलान कीजिए । ( जानवरों के प्रमुख अंगों का मिलान कीजिए ।)

सूची-I

सूची-II

- |                    |   |
|--------------------|---|
| (A) फेफड़े         | (I) पक्षी                               |
| (B) गिल्स (अरपट्ट) | (II) इनसेक्ट्स सेन्टिपेडेस (कीट रातपाद) |
| (C) श्वासनली       | (III) मछली                              |
| (D) वायु कोष       | (IV) स्तनधारी                           |

नीचे दिए गए विकल्पों में से **सर्वाधिक उपयुक्त** उत्तर का चयन कीजिए :

- (1) (A)-(I), (B)-(III), (C)-(II), (D)-(IV)
- (2) (A)-(IV), (B)-(III), (C)-(I), (D)-(II)
- (3) (A)-(III), (B)-(I), (C)-(II), (D)-(IV)
- (4) (A)-(IV), (B)-(III), (C)-(II), (D)-(I)

Options :

112807119093 1

112807119094 2

112807119095 3

112807119096 4

Question Number : 269 Question Id : 21280729774 Question Type : MCQ Option Shuffling : No Is Question Mandatory : No Calculator : None Response Time : N.A Think Time : N.A Minimum Instruction Time : 0

Correct Marks : 5 Wrong Marks : 1

Question Key Details :

Key	Value
Compression	h00Q

तालिका - I न सैते तालिका - II मिलोवा :

तालिका - I

तालिका - II

- |                |                 |
|----------------|-----------------|
| (A) होठवाँठ    | (I) चवाई        |
| (B) फूल        | (II) शतपदी पतला |
| (C) श्वासनली   | (III) माछ       |
| (D) वायुन मोना | (IV) उनापारी    |

तलत दिया विकल्पसमूहपवा शुद्ध ऊँरवते बाहि उलिओवा :

- (1) (A)-(I), (B)-(III), (C)-(II), (D)-(IV)
- (2) (A)-(IV), (B)-(III), (C)-(I), (D)-(II)
- (3) (A)-(III), (B)-(I), (C)-(II), (D)-(IV)
- (4) (A)-(IV), (B)-(III), (C)-(II), (D)-(I)

Options :

112807119093 1

112807119094 2

112807119095 3

112807119096 4

Question Number : 269 Question Id : 21280729774 Question Type : MCQ Option Shuffling : No Is Question Mandatory : No Calculator : None Response Time : N.A Think Time : N.A Minimum Instruction Time : 0

Correct Marks : 5 Wrong Marks : 1

Question Key Details :

Key	Value
-----	-------



তালিকা I এর সঙ্গে তালিকা II মেলাও : (প্রাণীদের শ্বাস অঙ্গ মেলাও)

তালিকা I

তালিকা II

- |               |                  |
|---------------|------------------|
| (A) ফুসফুস    | (I) পাখি         |
| (B) ফুলকা     | (II) কীট পতংগ    |
| (C) শ্বাসনালী | (III) মাছ        |
| (D) বায়ু থলি | (IV) স্তন্যপায়ী |

নিম্নলিখিত বিকল্পগুলি থেকে সঠিক উত্তরটি বেছে ন্যো :

- (1) (A)-(I), (B)-(III), (C)-(II), (D)-(IV)
- (2) (A)-(IV), (B)-(III), (C)-(I), (D)-(II)
- (3) (A)-(III), (B)-(I), (C)-(II), (D)-(IV)
- (4) (A)-(IV), (B)-(III), (C)-(II), (D)-(I)

Options :

- 212807119063 1  
212807119064 2  
212807119065 3  
212807119066 4

Question Number : 289 Question Id : 21280729774 Question Type : MCQ Option Shuffling : No Is Question Mandatory : No Calculator : None  
Response Time : N.A Think Time : N.A Minimum Instruction Time : 0

Correct Marks : 5 Wrong Marks : 1

Question Key Details :

Key	Value
Comprehension	MCQ

সূত্রী-I সাথে সূত্রী-II নে মেডো. প্রাণীઓ না স্বসন অংগো নে মেডো.

সূত্রী-I

সূত্রী-II

- |                          |                     |
|--------------------------|---------------------|
| (A) ফুসফুস (Lungs)       | (I) পাখীઓ Birds     |
| (B) গুল্ম (Gills)        | (II) লঁতু মে-টীপীডস |
| (C) শ্বাসনালী (Tracheae) | (III) মাছ           |
| (D) বায়ুথলি (Airsacs)   | (IV) সস্তন প্রাণীઓ  |

নীচে আপেটা বিকল্পोमांथी साथो ल्वाण पसंद करो.

- (1) (A)-(I), (B)-(III), (C)-(II), (D)-(IV)
- (2) (A)-(IV), (B)-(III), (C)-(I), (D)-(II)
- (3) (A)-(III), (B)-(I), (C)-(II), (D)-(IV)
- (4) (A)-(IV), (B)-(III), (C)-(II), (D)-(I)

Options :

- 212807119063 1  
212807119064 2  
212807119065 3  
212807119066 4

Question Number : 289 Question Id : 21280729774 Question Type : MCQ Option Shuffling : No Is Question Mandatory : No Calculator : None  
Response Time : N.A Think Time : N.A Minimum Instruction Time : 0

Correct Marks : 5 Wrong Marks : 1

Question Key Details :

Key	Value
Comprehension	MCQ

ಪಟ್ಟಿ - I ಅನ್ನು ಪಟ್ಟಿ - II ರ ಜೊತೆ ಹೋರಿಸಿ. (ಪ್ರಾಣಿಗಳ ಶ್ವಾಸಾಂಗಗಳನ್ನು ಹೋರಿಸಿ).

ಪಟ್ಟಿ - I

ಪಟ್ಟಿ - II

- |                 |                      |
|-----------------|----------------------|
| (A) ಶ್ವಾಸಕೋಶಗಳು | (I) ಪಕ್ಷಿಗಳು         |
| (B) ಕಿವಿರುಗಳು   | (II) ಕೀಟಗಳು ಶತಪದಿಗಳು |
| (C) ಶ್ವಾಸನಳಕೆ   | (III) ಮೀನು           |
| (D) ಗಾಳಿಬೀಲಗಳು  | (IV) ಸಸ್ತನಿಗಳು       |

ಕೆಳಗೆ ನೀಡಿರುವ ಆಯ್ಕೆಗಳಿಂದ ಸರಿಯಾದ ಉತ್ತರವನ್ನು ಆರಿಸಿ.

- (1) (A)-(I), (B)-(III), (C)-(II), (D)-(IV)
- (2) (A)-(IV), (B)-(III), (C)-(I), (D)-(II)
- (3) (A)-(III), (B)-(I), (C)-(II), (D)-(IV)
- (4) (A)-(IV), (B)-(III), (C)-(II), (D)-(I)

Options :

- 212807119093 1  
212807119094 2  
212807119095 3  
212807119096 4

Question Number : 239 Question Id : 21280729774 Question Type : MCQ Option Shuffling : No Is Question Mandatory : No Calculator : None  
Response Time : N.A Think Time : N.A Minimum Instruction Time : 0  
Correct Marks : 5 Wrong Marks : 1

Question Key Details :

Key	Value
Comprehension	MCQ

ಯಾದಿ - I आणि यಾದी - II जुळवा. (प्राण्यांच्या श्वासोच्छ्वासामाच्या अवयवांच्या जोड्या जुळवा)

यादी - I

यादी - II

- |                |                   |
|----------------|-------------------|
| (A) फुफ्फुस    | (I) पक्षी         |
| (B) कल्ले      | (II) शतपाद कीटक   |
| (C) श्वासनलिका | (III) मासे        |
| (D) वातकोष     | (IV) सस्तन प्राणी |

खालीलपैकी दिलेल्या पर्यायांमधून योग्य पर्याय निवडा :

- (1) (A)-(I), (B)-(III), (C)-(II), (D)-(IV)
- (2) (A)-(IV), (B)-(III), (C)-(I), (D)-(II)
- (3) (A)-(III), (B)-(I), (C)-(II), (D)-(IV)
- (4) (A)-(IV), (B)-(III), (C)-(II), (D)-(I)

Options :

- 212807119093 1  
212807119094 2  
212807119095 3  
212807119096 4

Question Number : 239 Question Id : 21280729774 Question Type : MCQ Option Shuffling : No Is Question Mandatory : No Calculator : None  
Response Time : N.A Think Time : N.A Minimum Instruction Time : 0  
Correct Marks : 5 Wrong Marks : 1

Question Key Details :

Key	Value
Comprehension	MCQ

പട്ടിക - I ഉം പട്ടിക - II ഉം തമ്മിൽ ചേരുംപടി ചേർക്കുക.  
(ജീവികളുടെ ശ്വസന അവയവങ്ങൾ ചേരുംപടി ചേർക്കുക)

പട്ടിക - I

പട്ടിക - II

- |               |                      |
|---------------|----------------------|
| (A) ശ്വാസകോശം | (I) പക്ഷികൾ          |
| (B) ചെങ്കിളി  | (II) കീടങ്ങൾ, പശുതാര |
| (C) ഭ്രാക്കിയ | (III) മത്സ്യം        |
| (D) വായുസഞ്ചി | (IV) സസ്തനികൾ        |

താഴെ കൊടുത്തിട്ടുള്ളതിൽ നിന്ന് ശരിയായ ഉത്തരം തിരഞ്ഞെടുത്ത് ഏഴുതുക.

- (1) (A)-(I), (B)-(III), (C)-(II), (D)-(IV)
- (2) (A)-(IV), (B)-(III), (C)-(I), (D)-(II)
- (3) (A)-(III), (B)-(I), (C)-(II), (D)-(IV)
- (4) (A)-(IV), (B)-(III), (C)-(II), (D)-(I)

Options :

- 212807119093 1
- 212807119094 2
- 212807119095 3
- 212807119096 4

Question Number : 259 Question Id : 21280719774 Question Type : MCQ Option Shuffling : No Is Question Mandatory : No Calculator : None  
Response Time : N.A Think Time : N.A Minimum Instruction Time : 0  
Correct Marks : 5 Wrong Marks : 1  
Question Key Details :

Key	Value
Comprehension	MCQ

ഓരിച്ച-I വളർച്ച ഓരിച്ച-II ൽ നിന്നു് । (യാരെ ചെടിയിലെ ഭാഗങ്ങളെ ചുറ്റും പഴ വളർച്ച നിന്നു് )

ഓരിച്ച-I

ഓരിച്ച-II

- |             |              |
|-------------|--------------|
| (A) മൂലം    | (I) പൂ       |
| (B) തണ്ടി   | (II) പൂക്കളി |
| (C) പൂക്കളി | (III) പൂ     |
| (D) പൂക്കളി | (IV) പൂക്കളി |

നിന്നു് പൂക്കളിയിലെ പൂക്കളി നന്നു് വളർച്ച പൂക്കളിയിൽ നിന്നു് ।

- (1) (A)-(I), (B)-(III), (C)-(II), (D)-(IV)
- (2) (A)-(IV), (B)-(III), (C)-(I), (D)-(II)
- (3) (A)-(III), (B)-(I), (C)-(II), (D)-(IV)
- (4) (A)-(IV), (B)-(III), (C)-(II), (D)-(I)

Options :

- 212807119093 1
- 212807119094 2
- 212807119095 3
- 212807119096 4

Question Number : 259 Question Id : 21280719774 Question Type : MCQ Option Shuffling : No Is Question Mandatory : No Calculator : None

Response Time : N.A Think Time : N.A Minimum Instruction Time : 0

Correct Marks : 5 Wrong Marks : 1

Question Key Details :

Key	Value
Comprehension	MCQ

ਮਿਲਾਣ ਕਰੋ ਸੂਚੀ-I ਦਾ ਲਿਸਟ-II ਨਾਲ। (ਜਾਨਵਰ ਦਾ ਸਵਾਸ ਕ੍ਰਿਆ ਸੰਬੰਧ ਅੰਗ ਮੈਚ ਕਰੋ)

ਸੂਚੀ-I

ਸੂਚੀ-II

- |                    |                     |
|--------------------|---------------------|
| (A) ਫੇਫੜੇ          | (I) ਪੰਛੀ            |
| (B) ਗਿੱਲੀਆਂ (ਗਿਲਸ) | (II) ਮੈਂਟੀਪੀਡਸ ਕੀਤੇ |
| (C) ਟ੍ਰੈਚੀਆ        | (III) ਮੱਛੀ          |
| (D) ਏਅਰਸੈਕ         | (IV) ਬਣਧਾਰੀ (ਮੇਮਲਸ) |

ਹੇਠ ਲਿਖਿਆ ਵਿਕਲਪਾਂ ਵਿੱਚ ਸਹੀ ਉੱਤਰ ਦੀ ਚੋਣ ਕਰੋ :

- (1) (A)-(I), (B)-(III), (C)-(II), (D)-(IV)
- (2) (A)-(IV), (B)-(III), (C)-(I), (D)-(II)
- (3) (A)-(III), (B)-(I), (C)-(II), (D)-(IV)
- (4) (A)-(IV), (B)-(III), (C)-(II), (D)-(I)

Options :

212807119093 1

212807119094 1

212807119095 3

212807119096 4

Question Number : 259 Question Id : 21280719774 Question Type : MCQ Option Shuffling : No Is Question Mandatory : No Calculator : None

Response Time : N.A Think Time : N.A Minimum Instruction Time : 0

Correct Marks : 5 Wrong Marks : 1

Question Key Details :

Key	Value
Comprehension	MCQ

ਪੋਸਟੀ ਪੱਥਰ - I ਅਤੇ ਪੱਥਰ - II ( ਵੀਲੰਗੁਕਸ਼ੀਨ ਕਵਾਸ  
ਅਤੇ ਪੱਥਰ - I ਅਤੇ ਪੱਥਰ - II )

ਪੱਥਰ - I

ਪੱਥਰ - II

- |                |                        |
|----------------|------------------------|
| (A) ਨੁਰਾਈਰਲ    | (I) ਪਠਾਈਕਸ             |
| (B) ਫਿਲੋਸ      | (II) ਪੁਸ਼ੀਕਸ ਸੇਨੇਪੀਟਕਸ |
| (C) ਮੁਸ਼ਕਕੁਮਾਯ | (III) ਮੀਨ              |
| (D) ਓਰਸਾਕਸ     | (IV) ਪਾਠਾਈਕਸ           |

ਫਿਲੋਸ ਕੋਸਟੀਕੁਮਾਯੋਸ ਵੀਲੰਗੁਕਸ਼ੀਨ ਕਵਾਸ ਅਤੇ ਪੱਥਰ - I ਅਤੇ ਪੱਥਰ - II

- (1) (A) (I), (B) (III), (C) (II), (D) (IV)
- (2) (A) (IV), (B) (III), (C) (I), (D) (II)
- (3) (A) (III), (B) (I), (C) (II), (D) (IV)
- (4) (A) (IV), (B) (III), (C) (II), (D) (I)

Options :

212807119093 1

212507119094 1  
212507119095 3  
212507119096 4

Question Number : 289 Question Id : 21250729774 Question Type : MCQ Option Shuffling : No Is Question Mandatory : No Calculator : None  
Response Time : N.A Think Time : N.A Minimum Instruction Time : 0  
Correct Marks : 5 Wrong Marks : 1  
Question Key Details :

Key	Value
Comprehension	MCQ

జాబితా - I ను జాబితా - II తో సజాతపరచండి :

జాబితా - I

జాబితా - II

- |                   |                |
|-------------------|----------------|
| (A) ఊపిరితిత్తులు | (I) పక్షులు    |
| (B) మొప్పలు       | (II) కీటకాలు   |
| (C) ట్రాకెయ్      | (III) చేప      |
| (D) గాలిసంచులు    | (IV) క్షీరజాలు |

క్రింది ఇచ్చిన బద్ధికాల నుండి సరైన జవాబు ఎన్నుకోండి :

- (1) (A)-(I), (B)-(III), (C)-(II), (D)-(IV)
- (2) (A)-(IV), (B)-(III), (C)-(I), (D)-(II)
- (3) (A)-(III), (B)-(I), (C)-(II), (D)-(IV)
- (4) (A)-(IV), (B)-(III), (C)-(II), (D)-(I)

Options :  
212507119093 1  
212507119094 3  
212507119095 3  
212507119096 4

Question Number : 289 Question Id : 21250729774 Question Type : MCQ Option Shuffling : No Is Question Mandatory : No Calculator : None  
Response Time : N.A Think Time : N.A Minimum Instruction Time : 0  
Correct Marks : 5 Wrong Marks : 1  
Question Key Details :

Key	Value
Comprehension	MCQ

لست I کولٹ II سے ملائیں:

لست II	لست I
(I) پرمٹے	(A) بچھڑا
(II) کیرے	(B) بھجھڑا
(III) چھلی	(C) ٹرکیا
(IV) دودھاری جانور	(D) اتریکیس

مندرجہ ذیل میں سے درست جواب کی نشان دہی کریں:

- (A)-(I), (B)-(III), (C)-(II), (D)-(IV) (1)  
(A)-(IV), (B)-(III), (C)-(I), (D)-(II) (2)  
(A)-(III), (B)-(I), (C)-(II), (D)-(IV) (3)  
(A)-(IV), (B)-(III), (C)-(II), (D)-(I) (4)

Options :

212807119093 1

212807119094 2

212807119095 3

212807119096 4

Question Number : 290 Question Id : 21280719775 Question Type : MCQ Option Shuffling : No Is Question Mandatory : No Calculator : None  
Response Time : N.A Think Time : N.A Minimum Instruction Time : 0

Correct Marks : 5 Wrong Marks : 1

Question Key Details :

Key	Value
Comprehension	MCQ

'Mandi dance' is the folk dance of which state ?

- (1) Punjab  
(2) Uttar Pradesh  
(3) Goa  
(4) Rajasthan

Options :

212807119097 1

212807119098 2

212807119099 3

212807119100 4

Question Number : 290 Question Id : 21280719775 Question Type : MCQ Option Shuffling : No Is Question Mandatory : No Calculator : None  
Response Time : N.A Think Time : N.A Minimum Instruction Time : 0

Correct Marks : 5 Wrong Marks : 1

Question Key Details :

Key	Value
Comprehension	MCQ

किस राज्य का लोक नृत्य 'मांडी नृत्य' है?

- (1) पंजाब
- (2) उत्तर प्रदेश
- (3) गोवा
- (4) राजस्थान

Options :

112807119097 1  
112807119098 2  
112807119099 3  
112807119100 4

Question Number : 290 Question Id : 21280729775 Question Type : MCQ Option Shuffling : No Is Question Mandatory : No Calculator : None  
Response Time : N.A Think Time : N.A Minimum Instruction Time : 0

Correct Marks : 5 Wrong Marks : 1

Question Key Details :

Key	Value
Comprehension	MCQ

'मांडी नृत्य' कौनसे राज्य का लोकनृत्य है ?

- (1) पंजाब
- (2) उत्तर प्रदेश
- (3) गोवा
- (4) राजस्थान

Options :

112807119097 1  
112807119098 2  
112807119099 3  
112807119100 4

Question Number : 290 Question Id : 21280729775 Question Type : MCQ Option Shuffling : No Is Question Mandatory : No Calculator : None  
Response Time : N.A Think Time : N.A Minimum Instruction Time : 0

Correct Marks : 5 Wrong Marks : 1

Question Key Details :

Key	Value
Comprehension	MCQ

'मांडी नृत्य' कौनसे राज्य का लोकनृत्य है ?

- (1) पंजाब
- (2) उत्तर प्रदेश
- (3) गोवा
- (4) राजस्थान

Options :

112807119097 1  
112807119098 2  
112807119099 3  
112807119100 4

Question Number : 290 Question Id : 21280729775 Question Type : MCQ Option Shuffling : No Is Question Mandatory : No Calculator : None  
Response Time : N.A Think Time : N.A Minimum Instruction Time : 0

Correct Marks : 5 Wrong Marks : 1

Question Key Details :

Key	Value
Comprehension	MCQ

'मंडी नृत्य' ('Mandi dance') એ લોક નૃત્ય છે તે કયા રાજ્યનું છે?

- (1) પંજાબ
- (2) ઉત્તર પ્રદેશ
- (3) ગોવા
- (4) રાજસ્થાન

Options :

- 212807119097 1  
212807119098 2  
212807119099 3  
212807119100 4

Question Number : 290 Question Id : 21280719775 Question Type : MCQ Option Shuffling : No Is Question Mandatory : No Calculator : None  
Response Time : N.A Think Time : N.A Minimum Instruction Time : 0

Correct Marks : 5 Wrong Marks : 1

Question Key Details :

Key	Value
Comprehension	MCQ

'મોંઢી નૃત્ય' યમાવ વાલ્યુઢ ઝાનપઢ નૃત્ય ?

- (1) પંજાબ
- (2) ઉત્તર પ્રદેશ
- (3) ગોવા
- (4) રાજસ્થાન

Options :

- 212807119097 1  
212807119098 2  
212807119099 3  
212807119100 4

Question Number : 290 Question Id : 21280719775 Question Type : MCQ Option Shuffling : No Is Question Mandatory : No Calculator : None  
Response Time : N.A Think Time : N.A Minimum Instruction Time : 0

Correct Marks : 5 Wrong Marks : 1

Question Key Details :

Key	Value
Comprehension	MCQ

'मंडी नृत्य' हे हीणत्या राज्याचे लोकनृत्य आहे ?

- (1) पंजाब
- (2) उत्तर प्रदेश
- (3) गोवा
- (4) राजस्थान

Options :

- 212807119097 1  
212807119098 2  
212807119099 3  
212807119100 4



Question Number : 290 Question Id : 21280719775 Question Type : MCQ Option Shuffling : No Is Question Mandatory : No Calculator : None  
Response Time : N.A Think Time : N.A Minimum Instruction Time : 0

Correct Marks : 5 Wrong Marks : 1

Question Key Details :

Key	Value
Comprehension	MCQ

മണി ന്യൂനത ഏത് സംസ്ഥാനത്തെ നാടോടി നൃത്തമാണ് ?

- (1) പഞ്ചാബ്
- (2) ഉത്തർ പ്രദേശ്
- (3) ഗോവ
- (4) രാജസ്ഥാൻ

Options :

212807119097 1

212807119098 2

212807119099 3

212807119100 4

Question Number : 290 Question Id : 21280719775 Question Type : MCQ Option Shuffling : No Is Question Mandatory : No Calculator : None  
Response Time : N.A Think Time : N.A Minimum Instruction Time : 0

Correct Marks : 5 Wrong Marks : 1

Question Key Details :

Key	Value
Comprehension	MCQ

'ମାଣି ନୂଆ' କେଉଁ ରାജ്യର നാടോടി നൃത്തമാണ് ?

- (1) ഗോവ
- (2) ഉത്തർ പ്രദേശ്
- (3) രാജസ്ഥാൻ
- (4) പഞ്ചാബ്

Options :

212807119097 1

212807119098 2

212807119099 3

212807119100 4

Question Number : 290 Question Id : 21280719775 Question Type : MCQ Option Shuffling : No Is Question Mandatory : No Calculator : None  
Response Time : N.A Think Time : N.A Minimum Instruction Time : 0

Correct Marks : 5 Wrong Marks : 1

Question Key Details :

Key	Value
Comprehension	MCQ

'ਮੰਡੀ ਨਾਚ' ਕਿਹੜੇ ਰਾਜ ਦਾ ਲੋਕ ਨਾਚ ਹੈ ?

- (1) ਪੰਜਾਬ
- (2) ਉੱਤਰ ਪ੍ਰਦੇਸ਼
- (3) ਗੋਆ
- (4) ਰਾਜਸਥਾਨ

Options :

212807119097 1

212807119098 2

212807119099 3  
212807119100 4

Question Number : 290 Question Id : 21280719775 Question Type : MCQ Option Shuffling : No Is Question Mandatory : No Calculator : None  
Response Time : N.A Think Time : N.A Minimum Instruction Time : 0

Correct Marks : 5 Wrong Marks : 1

Question Key Details :

Key	Value
Comprehension	MCQ

'మణిని నడనమ్' என்பது எந்த மாநிலத்தின் நாட்டுப்புற நడనమ్?

- (1) పంజాబ్
- (2) உத்தరప్ பிரதేశம்
- (3) கோவா
- (4) రాజస్థాన్

Options :

212807119097 1  
212807119098 2  
212807119099 3  
212807119100 4

Question Number : 290 Question Id : 21280719775 Question Type : MCQ Option Shuffling : No Is Question Mandatory : No Calculator : None  
Response Time : N.A Think Time : N.A Minimum Instruction Time : 0

Correct Marks : 5 Wrong Marks : 1

Question Key Details :

Key	Value
Comprehension	MCQ

"మండి నృత్యం" ఏ రాష్ట్ర జానపద నృత్యం ?

- (1) పంజాబ్
- (2) ఉత్తరప్రదేశ్
- (3) గోవా
- (4) రాజస్థాన్

Options :

212807119097 1  
212807119098 2  
212807119099 3  
212807119100 4

Question Number : 290 Question Id : 21280719775 Question Type : MCQ Option Shuffling : No Is Question Mandatory : No Calculator : None  
Response Time : N.A Think Time : N.A Minimum Instruction Time : 0

Correct Marks : 5 Wrong Marks : 1

Question Key Details :

Key	Value
Comprehension	MCQ

مندی نائی کس ریاست کا لوگ؟ اہس ہے؟

(1) پنجاب

(2) اتر پردیش

(3) مگوا

(4) راجستھان

Options :

212807119099 1

212807119098 2

212807119099 3

212807119100 4

Question Number : 291 Question Id : 21280719776 Question Type : MCQ Option Shuffling : No Is Question Mandatory : No Calculator : None  
Response Time : N.A Think Time : N.A Minimum Instruction Time : 0

Correct Marks : 5 Wrong Marks : 1

Question Key Details :

Key	Value
Comprehension	MCQ

Complete the series :

N3, P9, R27, T81, ?

(1) U81

(2) U243

(3) V162

(4) V243

Options :

212807119101 1

212807119102 2

212807119103 3

212807119104 4

Question Number : 291 Question Id : 21280719776 Question Type : MCQ Option Shuffling : No Is Question Mandatory : No Calculator : None  
Response Time : N.A Think Time : N.A Minimum Instruction Time : 0

Correct Marks : 5 Wrong Marks : 1

Question Key Details :

Key	Value
Comprehension	MCQ

निम्नलिखित श्रंखला को पूरा कीजिए :

N3, P9, R27, T81, ?

(1) U81

(2) U243

(3) V162

(4) V243

Options :

212807119101 1

212807119102 2

212807119103 3

212807119104 4

Question Number : 291 Question Id : 21280719776 Question Type : MCQ Option Shuffling : No Is Question Mandatory : No Calculator : None  
Response Time : N.A Think Time : N.A Minimum Instruction Time : 0

Correct Marks : 5 Wrong Marks : 1

Question Key Details :

Key	Value
Comprehension	MCQ

শুধেদাটো পূৰ্ণ কৰা :

N3, P9, R27, T81, ?

- (1) U81
- (2) U243
- (3) V162
- (4) V243

Options :

212807119101 1  
212807119102 2  
212807119103 3  
212807119104 4

Question Number : 291 Question Id : 21280729776 Question Type : MCQ Option Shuffling : No Is Question Mandatory : No Calculator : None  
Response Time : N.A Think Time : N.A Minimum Instruction Time : 0

Correct Marks : 5 Wrong Marks : 1

Question Key Details :

Key	Value
Comprehension	MCQ

শ্ৰেণীটো সম্পূৰ্ণ কৰো :

N3, P9, R27, T81, ?

- (1) U81
- (2) U243
- (3) V162
- (4) V243

Options :

212807119101 1  
212807119102 2  
212807119103 3  
212807119104 4

Question Number : 291 Question Id : 21280729776 Question Type : MCQ Option Shuffling : No Is Question Mandatory : No Calculator : None  
Response Time : N.A Think Time : N.A Minimum Instruction Time : 0

Correct Marks : 5 Wrong Marks : 1

Question Key Details :

Key	Value
Comprehension	MCQ

শ্ৰেণীটো পূৰ্ণ কৰা :

N3, P9, R27, T81, ?

- (1) U81
- (2) U243
- (3) V162
- (4) V243

Options :

212807119101 1  
212807119102 2  
212807119103 3  
212807119104 4

Question Number : 291 Question Id : 212807119101 Question Type : MCQ Option Shuffling : No Is Question Mandatory : No Calculator : None  
Response Time : N.A Think Time : N.A Minimum Instruction Time : 0

Correct Marks : 5 Wrong Marks : 1

Question Key Details :

Key	Value
Comprehension	MCQ

ಸರಣಿಯನ್ನು ಪೂರ್ಣಗೊಳಿಸಿ.

N3, P9, R27, T81, \_\_\_?

- (1) U81
- (2) U243
- (3) V162
- (4) V243

Options :

212807119101:1

212807119102:2

212807119103:3

212807119104:4

Question Number : 291 Question Id : 212807119102 Question Type : MCQ Option Shuffling : No Is Question Mandatory : No Calculator : None  
Response Time : N.A Think Time : N.A Minimum Instruction Time : 0

Correct Marks : 5 Wrong Marks : 1

Question Key Details :

Key	Value
Comprehension	MCQ

साखळी पूर्ण करा :

N3, P9, R27, T81, \_\_\_?

- (1) U81
- (2) U243
- (3) V162
- (4) V243

Options :

212807119101:1

212807119102:2

212807119103:3

212807119104:4

Question Number : 291 Question Id : 212807119103 Question Type : MCQ Option Shuffling : No Is Question Mandatory : No Calculator : None  
Response Time : N.A Think Time : N.A Minimum Instruction Time : 0

Correct Marks : 5 Wrong Marks : 1

Question Key Details :

Key	Value
Comprehension	MCQ

കന്നിമൂലം സീരിസ് പൂരിപ്പിക്കുക.

N3, P9, R27, T81, \_\_\_?

- (1) U81
- (2) U243
- (3) V162
- (4) V243

Options :

212807119101:1

212507119102 1  
212507119103 3  
212507119104 4

Question Number : 291 Question Id : 21250729776 Question Type : MCQ Option Shuffling : No Is Question Mandatory : No Calculator : None  
Response Time : N.A Think Time : N.A Minimum Instruction Time : 0

Correct Marks : 5 Wrong Marks : 1

Question Key Details :

Key	Value
Comprehension	MCQ

ଉତ୍ତରକୁ ପୂରଣ କର :

N3, P9, R27, T81, \_\_\_ ?

- (1) U81
- (2) U243
- (3) V162
- (4) V243

Options :

212507119101 1  
212507119102 2  
212507119103 3  
212507119104 4

Question Number : 291 Question Id : 21250729776 Question Type : MCQ Option Shuffling : No Is Question Mandatory : No Calculator : None  
Response Time : N.A Think Time : N.A Minimum Instruction Time : 0

Correct Marks : 5 Wrong Marks : 1

Question Key Details :

Key	Value
Comprehension	MCQ

ଫିରାକ୍ତ ଲୁଗା କି ପ୍ରକାରର -

N3, P9, R27, T81, \_\_\_ ?

- (1) U81
- (2) U243
- (3) V162
- (4) V243

Options :

212507119101 1  
212507119102 2  
212507119103 3  
212507119104 4

Question Number : 291 Question Id : 21250729776 Question Type : MCQ Option Shuffling : No Is Question Mandatory : No Calculator : None  
Response Time : N.A Think Time : N.A Minimum Instruction Time : 0

Correct Marks : 5 Wrong Marks : 1

Question Key Details :

Key	Value
Comprehension	MCQ

தொடரே நிறைவு செய்யுங்கள் :

N3, P9, R27, T81, \_\_\_\_\_ ?

(1) U81

(2) U243

(3) V162

(4) V243

Options :

212807119101:1

212807119102:2

212807119103:3

212807119104:4

Question Number : 291 Question Id : 21280719776 Question Type : MCQ Option Shuffling : No Is Question Mandatory : No Calculator : None  
Response Time : N.A Think Time : N.A Minimum Instruction Time : 0

Correct Marks : 5 Wrong Marks : 1

Question Key Details :

Key	Value
Comprehension	MCQ

ترتيب الأعداد : \_\_\_\_\_

N3, P9, R27, T81, \_\_\_\_\_ ?

(1) U81

(2) U243

(3) V162

(4) V243

Options :

212807119101:1

212807119102:2

212807119103:3

212807119104:4

Question Number : 291 Question Id : 21280719776 Question Type : MCQ Option Shuffling : No Is Question Mandatory : No Calculator : None  
Response Time : N.A Think Time : N.A Minimum Instruction Time : 0

Correct Marks : 5 Wrong Marks : 1

Question Key Details :

Key	Value
Comprehension	MCQ

ترتيب الأعداد : \_\_\_\_\_

N3, P9, R27, T81, \_\_\_\_\_ ?

U81 (1)

U243 (2)

V162 (3)

V243 (4)

Options :

212807119101:1

212807119102 1  
212807119103 3  
212807119104 4

Question Number : 293 Question Id : 21280729777 Question Type : MCQ Option Shuffling : No Is Question Mandatory : No Calculator : None  
Response Time : N.A Think Time : N.A Minimum Instruction Time : 0

Correct Marks : 5 Wrong Marks : 1

Question Key Details :

Key	Value
Comprehension	MCQ

In given question, there is a relation between two given words on one side of :: and one is given on another side of :: Find the missing word having the same relation.

Menu : Food :: Catalogue : ?

- (1) Rack
- (2) Newspaper
- (3) Library
- (4) Book

Options :

212807119105 1  
212807119106 3  
212807119107 1  
212807119108 4

Question Number : 292 Question Id : 21280729777 Question Type : MCQ Option Shuffling : No Is Question Mandatory : No Calculator : None  
Response Time : N.A Think Time : N.A Minimum Instruction Time : 0

Correct Marks : 5 Wrong Marks : 1

Question Key Details :

Key	Value
Comprehension	MCQ

नीचे दिए गए प्रश्न में एक ओर :: दिए गए दो शब्दों के बीच संबंध है और दूसरी ओर :: एक अन्य दिया गया है। तो इसी संबंध वाला अविद्यमान शब्द ज्ञात कीजिए।

मेनु : खाद्य पदार्थ :: कैटेलाग : ?

- (1) रैक
- (2) समाचार-पत्र
- (3) पुस्तकालय
- (4) पुस्तक

Options :

212807119105 1  
212807119106 3  
212807119107 1  
212807119108 4

Question Number : 292 Question Id : 21280729777 Question Type : MCQ Option Shuffling : No Is Question Mandatory : No Calculator : None  
Response Time : N.A Think Time : N.A Minimum Instruction Time : 0

Correct Marks : 5 Wrong Marks : 1

Question Key Details :

Key	Value
Comprehension	MCQ



উক্ত প্রশ্নটোয়, এইটো ফালল শব্দৰ লগত আনটো ফালল শব্দটোৰ এটা সম্পৰ্ক আছে। একেই সম্পৰ্ক বহন কৰা হেৰুৱা শব্দটো কি হ'ব?

মেনু : খাদ্য :: পুথিৰ তালিকা : \_\_\_\_\_?

- (1) বেক
- (2) বাতৰি কাকত
- (3) পুথিভঁৰাল
- (4) কিতাপ

Options :

212807119103 1

212807119104 2

212807119107 3

212807119108 4

Question Number : 292 Question Id : 21280729777 Question Type : MCQ Option Shuffling : No Is Question Mandatory : No Calculator : None  
Response Time : N.A Think Time : N.A Minimum Instruction Time : 0

Correct Marks : 5 Wrong Marks : 1

Question Key Details :

Key	Value
Comprehension	MCQ

প্রদত্ত প্রশ্নে দুটি শব্দৰ মध्ये ::-এৰ এক দিকের শব্দ এবং ::-এৰ অপর দিকের শব্দেৰ মধ্যে একটি সম্পৰ্ক আছে। একইভাবে সম্পৰ্কিত অনুপস্থিত শব্দটি খুঁজে বান কৰো।

খাদ্য তালিকা : খাদ্য :: সূচি : \_\_\_\_\_?

- (1) তাক
- (2) খবৰেৰ কাগজ
- (3) গ্ৰন্থাগাৰ
- (4) পুস্তক

Options :

212807119103 1

212807119104 2

212807119107 3

212807119108 4

Question Number : 292 Question Id : 21280729777 Question Type : MCQ Option Shuffling : No Is Question Mandatory : No Calculator : None  
Response Time : N.A Think Time : N.A Minimum Instruction Time : 0

Correct Marks : 5 Wrong Marks : 1

Question Key Details :

Key	Value
Comprehension	MCQ

આપેલ પ્રશ્નમાં, આપેલા બે શબ્દોની એક બાહ્ય વચ્ચે સંબંધ છે :: અને એક બીજી બાહ્યએ આપેલ છે :: અને એક બીજી બાહ્યએ આપેલ છે :: સમાન સંબંધ ધરાવતો ખૂટલો (ગૂમ) ઠયેલ શબ્દ શોધો.

Menu (મેનુ) : Food (ખોરાક) :: Catalogue (સૂચિ) : ?

- (1) રેક (Rack)
- (2) અખબાર (Newspaper)
- (3) પુસ્તકાલય (Library)
- (4) પુસ્તક (Book)

Options :

212807119105 1

212807119106 2

212807119107 3

212807119108 4

Question Number : 292 Question Id : 21280729777 Question Type : MCQ Option Shuffling : No Is Question Mandatory : No Calculator : None  
Response Time : N.A Think Time : N.A Minimum Instruction Time : 0

Correct Marks : 5 Wrong Marks : 1

Question Key Details :

Key	Value
Comprehension	MCQ

એકબીજા સંબંધમાં કોઈક વચ્ચે એક બાહ્ય વચ્ચે સંબંધ છે, an one side of :: and one is given on another side of :: તેથી બીજી સંબંધમાં કોઈક વચ્ચે સંબંધ છે, એક બાહ્ય વચ્ચે સંબંધ છે ::

Menu : Food :: Catalogue : ?

- (1) Rack
- (2) Newspaper
- (3) Library
- (4) Book

Options :

212807119105 1

212807119106 2

212807119107 3

212807119108 4

Question Number : 292 Question Id : 21280729777 Question Type : MCQ Option Shuffling : No Is Question Mandatory : No Calculator : None  
Response Time : N.A Think Time : N.A Minimum Instruction Time : 0

Correct Marks : 5 Wrong Marks : 1

Question Key Details :

Key	Value
Comprehension	MCQ

સહસંબંધ ઓછામાં પ્રશ્નચિન્હાવ્યા જાગી કોણતા પર્યાય ચેઈલા તે શોધા.

મેન્યુ : ખાન : : કેટલોગ : ?

- (1) રેક
- (2) વૃત્તપત્ર
- (3) ગ્રંથાલય
- (4) પુસ્તક

Options :

212807119105 1

212807119106 2

212807119107 3  
212807119108 4

Question Number : 292 Question Id : 21280719777 Question Type : MCQ Option Shuffling : No Is Question Mandatory : No Calculator : None  
Response Time : N.A Think Time : N.A Minimum Instruction Time : 0  
Correct Marks : 5 Wrong Marks : 1

Question Key Details :

Key	Value
Comprehension	MCQ

വിദ്യാലയം പുസ്തകശാଳ.

Menu : Food : : Catalogue : ?

- (1) Rack
- (2) Newspaper
- (3) Library
- (4) Book

Options :

212807119105 1  
212807119106 2  
212807119107 3  
212807119108 4

Question Number : 293 Question Id : 21280719777 Question Type : MCQ Option Shuffling : No Is Question Mandatory : No Calculator : None  
Response Time : N.A Think Time : N.A Minimum Instruction Time : 0  
Correct Marks : 5 Wrong Marks : 1

Question Key Details :

Key	Value
Comprehension	MCQ

ପ୍ରକଳ ସମାଜରଣାରେ, ଏଠାରେ ଛୋଟିଏ ପାଣ୍ଡିରେ ଦୁଇ ଶବ୍ଦ ମଧ୍ୟରେ ସମ୍ପର୍କ :: ଅନ୍ୟ ପାଣ୍ଡିରେ ଛୋଟିଏ ବିଆଯାଉଛି :: ଉଦ୍ଦିଷ୍ଟାକ୍ଷର  
ଶବ୍ଦଟି ବାହାରି ଯିବଳି ସମାନ ସମ୍ପର୍କ ପାଇଁ ପାଳନ କରୁଥିବ ।

ସୂଚୀ : ଶାବ୍ୟ :: କ୍ୟାବେଲ୍ : ?

- (1) ଶାଳ
- (2) ଉଦରକାଗଜ (ସମ୍ବାଦପତ୍ର)
- (3) ଲାଲଗୁରୁ
- (4) ପୁସ୍ତକ (କବି)

Options :

212807119105 1  
212807119106 2  
212807119107 3  
212807119108 4

Question Number : 292 Question Id : 21280719777 Question Type : MCQ Option Shuffling : No Is Question Mandatory : No Calculator : None  
Response Time : N.A Think Time : N.A Minimum Instruction Time : 0  
Correct Marks : 5 Wrong Marks : 1

Question Key Details :

Key	Value
Comprehension	MCQ



దక్ష ప్రశ్నలో : కి ఒక వైపు రెండు పదాల మధ్య ఒక సంబంధం ఉంది మరియు :: మరొక వైపు ఒక పదాన్ని ఇచ్చారు. సమాన సంబంధాన్ని ఏర్పరిచే తప్పిన పదాన్ని కనుక్కోండి ?

Menu : Food :: Catalogue : \_\_\_?

- (1) Rack
- (2) Newspaper
- (3) Library
- (4) Book

Options :

- 212807119105 1  
212807119106 2  
212807119107 3  
212807119108 4

Question Number : 292 Question Id : 21280729777 Question Type : MCQ Option Shuffling : No Is Question Mandatory : No Calculator : None  
Response Time : N.A Think Time : N.A Minimum Instruction Time : 0

Correct Marks : 5 Wrong Marks : 1

Question Key Details :

Key	Value
Comprehension	MCQ

دئے گئے سوالات میں نشان میں : : کے ایک سائنڈ میں اور نشان : : کے دوسرے کے سائنڈ میں دو لفظوں کے درمیان ایک تعلق ہے ایک ہی طرح کے تعلق رکھنے والے کلمہ دو لفظ کو دریافت کریں۔

میںو : کھانا :: کیتاگ : \_\_\_\_\_ ?

- (1) ریک
- (2) اخبار
- (3) انجیری
- (4) کتاب

Options :

- 212807119105 1  
212807119106 2  
212807119107 3  
212807119108 4

Question Number : 293 Question Id : 21280729778 Question Type : MCQ Option Shuffling : No Is Question Mandatory : No Calculator : None  
Response Time : N.A Think Time : N.A Minimum Instruction Time : 0

Correct Marks : 5 Wrong Marks : 1

Question Key Details :

Key	Value
Comprehension	MCQ

Here are some words translated from artificial language:

'sin co bye' means 'He is good'

'co mot det' means 'They are good'

Which code word stands for 'good' in the same artificial language ?

- (1) sin
- (2) bye
- (3) co
- (4) mot

Options :

212807119109-1

212807119110-2

212807119111-3

212807119112-4

Question Number : 293 Question Id : 21280729778 Question Type : MCQ Option Shuffling : No Is Question Mandatory : No Calculator : None  
Response Time : N.A Think Time : N.A Minimum Instruction Time : 0

Correct Marks : 5 Wrong Marks : 1

Question Key Details :

Key	Value
Comprehension	MCQ

नीचे कृत्रिम भाषा से अनुवादित कुछ शब्द हैं :

'sin co bye' का अर्थ है 'He is good'

'co mot det' का अर्थ है 'They are good'

इसी कृत्रिम भाषा में 'good' का सूचक कौन-सा कूट है ?

- (1) sin
- (2) bye
- (3) co
- (4) mot

Options :

212807119109-1

212807119110-2

212807119111-3

212807119112-4

Question Number : 293 Question Id : 21280729778 Question Type : MCQ Option Shuffling : No Is Question Mandatory : No Calculator : None  
Response Time : N.A Think Time : N.A Minimum Instruction Time : 0

Correct Marks : 5 Wrong Marks : 1

Question Key Details :

Key	Value
Comprehension	MCQ

কৃত্রিম ভাষায় পত্রা কিছুমান শব্দ অনুবাদ করা হৈছে।

'sin co bye' মানে 'সি ভাল'

'co mot det' মানে 'সিহঁত ভাল'

একেই কৃত্রিম ভাষাত কোনটো গোপনীয় শব্দ মানে 'ভাল' বুজাইছে ?

- (1) sin
- (2) bye
- (3) co
- (4) mot

Options :

212807119109-1

212807119110-2

212807119111-3

212807119112-4

Question Number : 293 Question Id : 21280719775 Question Type : MCQ Option Shuffling : No Is Question Mandatory : No Calculator : None  
Response Time : N.A Think Time : N.A Minimum Instruction Time : 0

Correct Marks : 5 Wrong Marks : 1

Question Key Details :

Key	Value
Comprehension	MCQ

এখানে কিছু শব্দ কৃত্রিম বুদ্ধিমত্তা থেকে অনুবাদ করা হরোছে।

'sin co bye' মানে 'He is good'

'co mot-det' মানে 'They are good'

কৃত্রিম বুদ্ধিমত্তার ভাষায় কোন শব্দের মানে 'good' ?

- (1) sin
- (2) bye
- (3) co
- (4) mot

Options :

212807119109-1

212807119110-2

212807119111-3

212807119112-4

Question Number : 293 Question Id : 21280719775 Question Type : MCQ Option Shuffling : No Is Question Mandatory : No Calculator : None  
Response Time : N.A Think Time : N.A Minimum Instruction Time : 0

Correct Marks : 5 Wrong Marks : 1

Question Key Details :

Key	Value
Comprehension	MCQ

અહીંયા કૃત્રિમ ભાષા માંથી ભાષાંતર કરેલા કેટલાક શબ્દો છે.

'sin co bye' means 'He is good'

'co mot det' means 'They are good'

કૃત્રિમ ભાષામાં કયો સમાન શબ્દ 'good' માટે વપરાય છે?

- (1) sin
- (2) bye
- (3) co
- (4) mot

Options :

212807119109 1

212807119110 2

212807119111 3

212807119112 4

Question Number : 293 Question Id : 21280729778 Question Type : MCQ Option Shuffling : No Is Question Mandatory : No Calculator : None  
Response Time : N.A Think Time : N.A Minimum Instruction Time : 0

Correct Marks : 5 Wrong Marks : 1

Question Key Details :

Key	Value
Comprehension	MCQ

અહીં કેલવુ શબ્દોનું કૃત્રિમ ભાષાંતર કરેલા કેટલાક શબ્દો છે.

'sin co bye' means 'He is good'

'co mot det' means 'They are good'

આમાં સંકેત શબ્દ 'good' નું કયું કૃત્રિમ ભાષાંતર શબ્દ છે ?

- (1) sin
- (2) bye
- (3) co
- (4) mot

Options :

212807119109 1

212807119110 2

212807119111 3

212807119112 4

Question Number : 293 Question Id : 21280729778 Question Type : MCQ Option Shuffling : No Is Question Mandatory : No Calculator : None  
Response Time : N.A Think Time : N.A Minimum Instruction Time : 0

Correct Marks : 5 Wrong Marks : 1

Question Key Details :

Key	Value
Comprehension	MCQ



പുറീൽ കതീ ശബ്ദ റെ ഏക കൃത്രിമ ഭാഷേതൂൻ ഭാഷേതരിത കരണ്യേത അലേ അരേത.

'sin co bye' മ്ഹണ്ജേ 'He is good'

'co mot det' മ്ഹണ്ജേ 'They are good'

യേച കൃത്രിമ ഭാഷേത 'good' സാരി കോണ്യത ശബ്ദ വേപരലേ ജാതേ?

- (1) sin
- (2) bye
- (3) co
- (4) mot

Options :

212807119109 1

212807119110 2

212807119111 3

212807119112 4

Question Number : 293 Question Id : 21280719775 Question Type : MCQ Option Shuffling : No Is Question Mandatory : No Calculator : None  
Response Time : N.A Think Time : N.A Minimum Instruction Time : 0

Correct Marks : 5 Wrong Marks : 1

Question Key Details :

Key	Value
Comprehension	MCQ

കൃത്യതരിമ ഭാഷേതരിൽ നരിന്നൂര പരിഭാഷേതപ്പേടുത്തരിയ ചരില വാക്കൂകൾ താരഴ കേരടുക്കൂണ്യ.

'sin co bye' എണ്ണാരൽ 'He is good'

'co mot det' എണ്ണാരൽ 'They are good'

ഈ ഭാഷേതരിൽ 'good' എണ്ണ വരക്കരിന് പകരരം ഉപയോഗരികൂണ്ണ കേരഡ് എത്തേ?

- (1) sin
- (2) bye
- (3) co
- (4) mot

Options :

212807119109 1

212807119110 2

212807119111 3

212807119112 4

Question Number : 293 Question Id : 21280719775 Question Type : MCQ Option Shuffling : No Is Question Mandatory : No Calculator : None  
Response Time : N.A Think Time : N.A Minimum Instruction Time : 0

Correct Marks : 5 Wrong Marks : 1

Question Key Details :

Key	Value
Comprehension	MCQ

ਕੁਰ੍ਹਿਮ ਆਖਾਰੋਂ ਬਸਾਨ ਕਰਕੇ ਅਨੁਭਵ ਕਰਾਇਆ।

'ਬਿਨ ਯੋਗੇ ਜਗਤ' ਅਤੇ 'ਕੇਵਲ ਕਰੁਣਾ ਕਰੁਣਾ'

'ਕੇਵਲ ਕੇਵਲ' ਅਤੇ 'ਬੇਮਾਨ ਕਰੁਣਾ ਕਰੁਣਾ'

'ਕੇਵਲ ਕੇਵਲ' ਅਤੇ 'ਬੇਮਾਨ ਕੇਵਲ ਕਰੁਣਾ'

ਕੋਈ ਸ਼ਬਦ ਕਿਹੜਾ ਹੈ 'ਕੇਵਲ' ਦਾ ਸਮਾਨ ਅਰਥ ਦਾ ?

- (1) ਬਿਨ (sin)
- (2) ਕਰੁਣਾ (bye)
- (3) ਕੇਵਲ (co)
- (4) ਕੇਵਲ (mot)

Options :

212807119109 : 1

212807119110 : 2

212807119111 : 3

212807119112 : 4

Question Number : 293 Question Id : 21280719778 Question Type : MCQ Option Shuffling : No Is Question Mandatory : No Calculator : None

Response Time : N.A Think Time : N.A Minimum Instruction Time : 0

Correct Marks : 5 Wrong Marks : 1

Question Key Details :

Key	Value
Comprehension	MCQ

ਇੱਥੇ ਕੁਝ ਸ਼ਬਦਾਂ ਦਾ ਨਕਲੀ ਭਾਸ਼ਾ ਵਿਚ ਅਨੁਵਾਦ ਕੀਤਾ ਹੈ।

'ਸਿਨ ਕੋ ਬਾਇ' ਮਤਲਬ 'ਹੀ ਇਜ ਗੁੱਡ'

'ਕੋ ਮੋਟ ਡੇਟ' ਮਤਲਬ 'ਦੇ ਆਰ ਗੁੱਡ'

ਇਹੋ ਜਿਹੀ ਨਕਲੀ ਭਾਸ਼ਾ ਵਿਚ 'ਗੁੱਡ' ਸ਼ਬਦ ਲਈ ਕਿਹੜਾ ਕੋਈ ਸ਼ਬਦ ਖੜਾ ਹੈ?

- (1) ਸਿਨ
- (2) ਬਾਇ
- (3) ਕੋ
- (4) ਮੋਟ

Options :

212807119109 : 1

212807119110 : 2

212807119111 : 3

212807119112 : 4

Question Number : 293 Question Id : 21280719778 Question Type : MCQ Option Shuffling : No Is Question Mandatory : No Calculator : None

Response Time : N.A Think Time : N.A Minimum Instruction Time : 0

Correct Marks : 5 Wrong Marks : 1

Question Key Details :

Key	Value
Comprehension	MCQ

செயற்கை மொழியில் இருந்து மொழிபெயர்க்கப்பட்ட சில சொற்கள் இங்கே.

'பாவம் கோ பை' என்றால் 'அவர் நல்லவர்' என்று பொருள்.

'கோ மோட் டெட்' என்றால் 'அவர்கள் நல்லவர்கள்' என்று பொருள்.

அதே செயற்கை மொழியில் 'நல்லது' என்பதைக் குறிக்கும் குறியீட்டுச் சொல் எது?

- (1) இல்லாமல்
- (2) பை
- (3) co
- (4) எதிராக

Options :

112807119109 1

212807119110 2

312807119111 3

412807119112 4

Question Number : 293 Question Id : 21280729778 Question Type : MCQ Option Shuffling : No Is Question Mandatory : No Calculator : None

Response Time : N.A Think Time : N.A Minimum Instruction Time : 0

Correct Marks : 5 Wrong Marks : 1

Question Key Details :

Key	Value
Comprehension	MCQ

కృత్రిమ భాష నుండి కొన్ని పదాలు అనువదించారు.

'sin co bye' అనగా 'He is good'

'co mot det' అనగా 'They are good'

ఆ కృత్రిమ భాషలో 'good' కి సమాన కోడ్ పదం ఏది ?

- (1) sin
- (2) bye
- (3) co
- (4) mot

Options :

212807119109 1

212807119110 2

312807119111 3

412807119112 4

Question Number : 293 Question Id : 21280729778 Question Type : MCQ Option Shuffling : No Is Question Mandatory : No Calculator : None

Response Time : N.A Think Time : N.A Minimum Instruction Time : 0

Correct Marks : 5 Wrong Marks : 1

Question Key Details :

Key	Value
Comprehension	MCQ

یہاں کچھ لفظوں کا ترجمہ مصنوعی زبان سے کیا گیا ہے

'He is good' کا مطلب 'sin co bye'

'They are good' کا مطلب 'co mot det'

اس مصنوعی زبان میں کون سا کوڈ "Good" کے لئے استعمال کیا گیا ہے ؟

sin (1)

bye (2)

co (3)

mot (4)

Options :

112807119109 1

212807119110 2

212807119111 3

212807119112 4

Question Number : 294 Question Id : 21280729779 Question Type : MCQ Option Skuffling : No Is Question Mandatory : No Calculator : None

Response Time : N.A Think Time : N.A Minimum Instruction Time : 0

Correct Marks : 5 Wrong Marks : 1

Question Key Details :

Key	Value
Comprehension	MCQ

Introducing a man, a woman said, 'His wife is the only daughter of my father.' How is that man related to the woman ?

- (1) Brother
- (2) Husband
- (3) Father-in-law
- (4) Maternal uncle

Options :

212807119113 1

212807119114 2

212807119115 3

212807119116 4

Question Number : 294 Question Id : 21280729779 Question Type : MCQ Option Skuffling : No Is Question Mandatory : No Calculator : None

Response Time : N.A Think Time : N.A Minimum Instruction Time : 0

Correct Marks : 5 Wrong Marks : 1

Question Key Details :

Key	Value
Comprehension	MCQ

एक महिला ने एक पुरुष का परिचय देते हुए कहा : " इनकी पत्नी मेरे पिता की एकमात्र पुत्री है। " वह पुरुष उस महिला से कैसे संबंधित है ?

- (1) भाई
- (2) पति
- (3) ससुर
- (4) नाना

Options :

- 212807119113-1
- 212807119114-2
- 212807119115-3
- 212807119116-4

Question Number : 294 Question Id : 21280729779 Question Type : MCQ Option Shuffling : No Is Question Mandatory : No Calculator : None  
Response Time : N.A Think Time : N.A Minimum Instruction Time : 0

Correct Marks : 5 Wrong Marks : 1

Question Key Details :

Key	Value
Comprehension	MCQ

এজন পুৰুষক পৰিচয় কৰাই মহিলা এজনীয়ে ক'লে, তেওঁৰ মৈথীয়েক মোৰ দেউতাৰ একমাত্ৰ জীয়াৰী। সেই পুৰুষজনৰ মহিলাগৰাকীৰ লগত কি সম্পৰ্কৰে জড়িত ?

- (1) ভায়েক
- (2) গিৰিয়েক
- (3) শ্বশুৰ
- (4) মামা

Options :

- 212807119113-1
- 212807119114-2
- 212807119115-3
- 212807119116-4

Question Number : 294 Question Id : 21280729779 Question Type : MCQ Option Shuffling : No Is Question Mandatory : No Calculator : None  
Response Time : N.A Think Time : N.A Minimum Instruction Time : 0

Correct Marks : 5 Wrong Marks : 1

Question Key Details :

Key	Value
Comprehension	MCQ

একজন পুৰুষকে পৰিচয় কৰাতে, এক মহিলা বলালে, 'তাৰ স্ত্ৰী হল আমাৰ পিতাৰ একমাত্ৰ বন্যা'। পুৰুষটি কীভাবে মহিলাৰ সান্ধে সম্পৰ্কিত ?

- (1) ভাই
- (2) দামী
- (3) শ্বশুৰমশাই
- (4) মামা

Options :

- 212807119113-1
- 212807119114-2
- 212807119115-3
- 212807119116-4

Question Number : 294 Question Id : 21280729779 Question Type : MCQ Option Shuffling : No Is Question Mandatory : No Calculator : None  
Response Time : N.A Think Time : N.A Minimum Instruction Time : 0

Correct Marks : 5 Wrong Marks : 1

Question Key Details :

Key	Value
Comprehension	MCQ

એક પુરુષનો પરિચય આપતા એક સ્ત્રીએ કહ્યું -

'તેની પત્ની મારા પિતાની એકમાત્ર પુત્રી છે' તે પુરુષ ને સ્ત્રી સાથે કેવી રીતે સંબંધ છે?

- (1) ભાઈ
- (2) પતિ
- (3) સસરા
- (4) મામા

Options :

- 112807119113 1  
112807119114 2  
112807119115 3  
112807119116 4

Question Number : 294 Question Id : 21280729779 Question Type : MCQ Option Shuffling : No Is Question Mandatory : No Calculator : None  
Response Time : N.A Think Time : N.A Minimum Instruction Time : 0

Correct Marks : 5 Wrong Marks : 1

Question Key Details :

Key	Value
Comprehension	MCQ

'અવન હેનકતિયુ નસ્ય તન્દયે બ્રહ્મકે મુગલુ' એમું બ્રહ્મ મુહિલે બ્રહ્મ વ્યક્તિયનુ પરીચયુનુસારુ મેલિદલુ. અ વ્યક્તિયુ મુહિલે મેલે સંબંધિકનગિદ્યારે ?

- (1) સહેનદર
- (2) પતિ
- (3) મામા
- (4) માતૃક બેલ્લવ

Options :

- 112807119113 1  
112807119114 2  
112807119115 3  
112807119116 4

Question Number : 294 Question Id : 21280729779 Question Type : MCQ Option Shuffling : No Is Question Mandatory : No Calculator : None  
Response Time : N.A Think Time : N.A Minimum Instruction Time : 0

Correct Marks : 5 Wrong Marks : 1

Question Key Details :

Key	Value
Comprehension	MCQ

एका पुरुषाची ओळखा करून देताना एक महिला म्हणाली, "याची बायको ही माझ्या वडिलांची एकुलती एक मुलगी आहे" त्या पुरुषाचे त्या महिलेशी असणारे नसे काय ?

- (1) भाऊ
- (2) पती
- (3) सासरा
- (4) काका

Options :

- 112807119113 1  
112807119114 2  
112807119115 3  
112807119116 4

Question Number : 294 Question Id : 21280719779 Question Type : MCQ Option Shuffling : No Is Question Mandatory : No Calculator : None  
Response Time : N.A Think Time : N.A Minimum Instruction Time : 0

Correct Marks : 5 Wrong Marks : 1

Question Key Details :

Key	Value
Comprehension	MCQ

ഒരു പുരുഷനെ പരിചയപ്പെടുത്തിക്കൊണ്ട് ഒരു സ്ത്രീ പറഞ്ഞു, “അയാളുടെ ഭാര്യ എന്റെ അച്ഛന്റെ ഒരു ഒരു മകളാണ്.” ആ പുരുഷൻ ഈ സ്ത്രീയുമായുള്ള ബന്ധം എന്ത് ?

- (1) സഹോദരൻ
- (2) ഭർത്താവ്
- (3) അമ്മായിയച്ഛൻ
- (4) മാതൃ സഹോദരൻ

Options :

21280719113 1

21280719114 2

21280719115 3

21280719116 4

Question Number : 294 Question Id : 21280719779 Question Type : MCQ Option Shuffling : No Is Question Mandatory : No Calculator : None  
Response Time : N.A Think Time : N.A Minimum Instruction Time : 0

Correct Marks : 5 Wrong Marks : 1

Question Key Details :

Key	Value
Comprehension	MCQ

ശ്രീകൃഷ്ണൻ പൂജിക്കാൻ തന്നെ, കണ്ടെത്തിയ കിരീടം - “താൻ ദർശി നോ നാഥാൻ ദേവ്” । ടേബിൾ പൂജിക്കാൻ, നീക്കം ചെയ്ത കിരീടം ?

- (1) വെള്ള
- (2) വെള്ള/വെള്ള
- (3) വെള്ള
- (4) വെള്ള

Options :

21280719113 1

21280719114 2

21280719115 3

21280719116 4

Question Number : 294 Question Id : 21280719779 Question Type : MCQ Option Shuffling : No Is Question Mandatory : No Calculator : None  
Response Time : N.A Think Time : N.A Minimum Instruction Time : 0

Correct Marks : 5 Wrong Marks : 1

Question Key Details :

Key	Value
Comprehension	MCQ

ਇਕ ਆਦਮੀ ਨਾਲ ਜਾਣ ਪਛਾਣ ਕਰਾਉਂਦੇ ਹੋਏ ਇਕ ਔਰਤ ਨੇ ਕਿਹਾ ਕਿ ਉਸਦੀ ਪਤਨੀ ਮੇਰੇ ਪਿਤਾ ਦੀ ਇਕਲੌਤੀ ਧੀ ਹੈ । ਉਸ ਆਦਮੀ ਦਾ ਔਰਤ ਨਾਲ ਕੀ ਸੰਬੰਧ ਹੈ ।

- (1) ਭਰਾ
- (2) ਪਤੀ
- (3) ਸਹੁਰਾ
- (4) ਮਾਮਾਜੀ

Options :

- 212807119113 : 1  
212807119114 : 2  
212807119115 : 3  
212807119116 : 4

Question Number : 294 Question Id : 21280729779 Question Type : MCQ Option Shuffling : No Is Question Mandatory : No Calculator : None  
Response Time : N.A Think Time : N.A Minimum Instruction Time : 0

Correct Marks : 5 Wrong Marks : 1

Question Key Details :

Key	Value
Comprehension	MCQ

ਓਹ ਆਦਮੀ ਨਾਲ ਜਾਣ ਪਛਾਣ ਕਰਾਉਂਦੇ ਹੋਏ ਇਕ ਔਰਤ ਨੇ ਕਿਹਾ ਕਿ ਉਸਦੀ ਪਤਨੀ ਮੇਰੇ ਪਿਤਾ ਦੀ ਇਕਲੌਤੀ ਧੀ ਹੈ । ਉਸ ਆਦਮੀ ਦਾ ਔਰਤ ਨਾਲ ਕੀ ਸੰਬੰਧ ਹੈ ।

- (1) ਭਰਾ
- (2) ਪਤੀ
- (3) ਸਹੁਰਾ
- (4) ਮਾਮਾਜੀ

Options :

- 212807119113 : 1  
212807119114 : 2  
212807119115 : 3  
212807119116 : 4

Question Number : 294 Question Id : 21280729779 Question Type : MCQ Option Shuffling : No Is Question Mandatory : No Calculator : None  
Response Time : N.A Think Time : N.A Minimum Instruction Time : 0

Correct Marks : 5 Wrong Marks : 1

Question Key Details :

Key	Value
Comprehension	MCQ

ਇਕ ਆਦਮੀ ਨਾਲ ਜਾਣ ਪਛਾਣ ਕਰਾਉਂਦੇ ਹੋਏ ਇਕ ਔਰਤ ਨੇ ਕਿਹਾ ਕਿ ਉਸਦੀ ਪਤਨੀ ਮੇਰੇ ਪਿਤਾ ਦੀ ਇਕਲੌਤੀ ਧੀ ਹੈ । ਉਸ ਆਦਮੀ ਦਾ ਔਰਤ ਨਾਲ ਕੀ ਸੰਬੰਧ ਹੈ ।

- (1) ਭਰਾ
- (2) ਪਤੀ
- (3) ਸਹੁਰਾ
- (4) ਮਾਮਾਜੀ

Options :



212507119113:1  
212507119114:2  
212507119115:3  
212507119116:4

Question Number : 294 Question Id : 21250719779 Question Type : MCQ Option Shuffling : No Is Question Mandatory : No Calculator : None  
Response Time : N.A Think Time : N.A Minimum Instruction Time : 0

Correct Marks : 5 Wrong Marks : 1

Question Key Details :

Key	Value
Comprehension	MCQ

ایک مرد کا تعارف کراتے ہوئے ایک عورت نے کہا ”اس کی بیوی میرے والد کی اکلوتی بیٹی ہے“ مرد کا اس عورت کے ساتھ کس طرح کا رشتہ ہے ؟

بیانی (1)

شوہر (2)

س (3)

م (4)

Options :

212507119113:1  
212507119114:2  
212507119115:3  
212507119116:4

Question Number : 295 Question Id : 21250719780 Question Type : MCQ Option Shuffling : No Is Question Mandatory : No Calculator : None  
Response Time : N.A Think Time : N.A Minimum Instruction Time : 0

Correct Marks : 5 Wrong Marks : 1

Question Key Details :

Key	Value
Comprehension	MCQ

In a month of 31 days, third Friday falls on 17<sup>th</sup>. What will be the last day of the month ?

(1) Wednesday

(2) Thursday

(3) Friday

(4) Saturday

Options :

212507119117:1  
212507119118:2  
212507119119:3  
212507119120:4

Question Number : 295 Question Id : 21250719780 Question Type : MCQ Option Shuffling : No Is Question Mandatory : No Calculator : None  
Response Time : N.A Think Time : N.A Minimum Instruction Time : 0

Correct Marks : 5 Wrong Marks : 1

Question Key Details :

Key	Value
Comprehension	MCQ

31 दिनों के एक माह में तीसरा शुक्रवार 17 तारीख को आता है। तो इसी माह का अंतिम दिन क्या होगा?

- (1) बुधवार
- (2) बृहस्पतिवार
- (3) शुक्रवार
- (4) शनिवार

Options :

112807119117 1  
112807119118 2  
112807119119 3  
112807119120 4

Question Number : 295 Question Id : 21280729780 Question Type : MCQ Option Shuffling : No Is Question Mandatory : No Calculator : None  
Response Time : N.A Think Time : N.A Minimum Instruction Time : 0

Correct Marks : 5 Wrong Marks : 1

Question Key Details :

Key	Value
Comprehension	MCQ

31 दिनोया माह एतो तृतीय शनिवारतो 17 तारिखे परिछे। माहतेर शेखर दिनतो कि वार ह'व ?

- (1) बुधवार
- (2) बृहस्पतिवार
- (3) शुक्रवार
- (4) शनिवार

Options :

112807119117 1  
112807119118 2  
112807119119 3  
112807119120 4

Question Number : 295 Question Id : 21280729780 Question Type : MCQ Option Shuffling : No Is Question Mandatory : No Calculator : None  
Response Time : N.A Think Time : N.A Minimum Instruction Time : 0

Correct Marks : 5 Wrong Marks : 1

Question Key Details :

Key	Value
Comprehension	MCQ

31 दिनेर कोनो मासे, तृतीय शुक्रवार पडेल्लि 17 ते। ताहले मासेर शेख दिन की वार हवे ?

- (1) बुधवार
- (2) बृहस्पतिवार
- (3) शुक्रवार
- (4) शनिवार

Options :

112807119117 1  
112807119118 2  
112807119119 3  
112807119120 4

Question Number : 295 Question Id : 21280729780 Question Type : MCQ Option Shuffling : No Is Question Mandatory : No Calculator : None  
Response Time : N.A Think Time : N.A Minimum Instruction Time : 0

Correct Marks : 5 Wrong Marks : 1

Question Key Details :

Key	Value
Comprehension	MCQ

31 દિવસોના મહિના માં, ત્રીજો શુક્રવાર 17 થી એ આવે છે. મહિનાનો છેલ્લો દિવસ શું હશે?

- (1) બુધવાર
- (2) ગુરુવાર
- (3) શુક્રવાર
- (4) સનિવાર

Options :

212807119117 1  
212807119118 2  
212807119119 3  
212807119120 4

Question Number : 295 Question Id : 21280719780 Question Type : MCQ Option Shuffling : No Is Question Mandatory : No Calculator : None  
Response Time : N.A Think Time : N.A Minimum Instruction Time : 0

Correct Marks : 5 Wrong Marks : 1

Question Key Details :

Key	Value
Comprehension	MCQ

31 દિવસોના મહિના માં, ત્રીજો શુક્રવાર 17 થી એ આવે છે. મહિનાનો છેલ્લો દિવસ શું હશે?

- (1) બુધવાર
- (2) ગુરુવાર
- (3) શુક્રવાર
- (4) સનિવાર

Options :

212807119117 1  
212807119118 2  
212807119119 3  
212807119120 4

Question Number : 295 Question Id : 21280719780 Question Type : MCQ Option Shuffling : No Is Question Mandatory : No Calculator : None  
Response Time : N.A Think Time : N.A Minimum Instruction Time : 0

Correct Marks : 5 Wrong Marks : 1

Question Key Details :

Key	Value
Comprehension	MCQ

31 દિવસોના મહિના માં, ત્રીજો શુક્રવાર 17 થી એ આવે છે. મહિનાનો છેલ્લો દિવસ શું હશે?

- (1) બુધવાર
- (2) ગુરુવાર
- (3) શુક્રવાર
- (4) સનિવાર

Options :

212807119117 1  
212807119118 2  
212807119119 3  
212807119120 4

Question Number : 295 Question Id : 21280719780 Question Type : MCQ Option Shuffling : No Is Question Mandatory : No Calculator : None Response Time : N.A Think Time : N.A Minimum Instruction Time : 0

Correct Marks : 5 Wrong Marks : 1

Question Key Details :

Key	Value
Comprehension	MCQ

31 ദിവസങ്ങളുള്ള ഒരു മാസത്തിലെ മൂന്നാമത്തെ വെള്ളിയാഴ്ച 17-ാം ആണ്ടെങ്കിൽ, ആ മാസത്തിലെ അവസാനത്തെ ദിവസം താഴെ കൊടുത്തിട്ടുള്ളതിൽ ഏതായിരിക്കും ?

- (1) ബുധനാഴ്ച
- (2) വ്യാഴാഴ്ച
- (3) വെള്ളിയാഴ്ച
- (4) ശനിയാഴ്ച

Options :

- 212807119117 1
- 212807119118 2
- 212807119119 3
- 212807119120 4

Question Number : 295 Question Id : 21280729780 Question Type : MCQ Option Shuffling : No Is Question Mandatory : No Calculator : None Response Time : N.A Think Time : N.A Minimum Instruction Time : 0

Correct Marks : 5 Wrong Marks : 1

Question Key Details :

Key	Value
Comprehension	MCQ

ଗୋଟିଏ വാദ 31 ଦିനରେ ବୁଧൻ ଶୁକ୍ରବାର 17 ଦିନରେ ପୂର୍ଣ୍ଣ । ତେବେ ୟାଦର ଶେଷ ଦିନରେ କେଉଁଦିନ ପଡ଼େ ?

- (1) ବୁଧବାର
- (2) ଶୁକ୍ରବାର
- (3) ଶୁକ୍ରବାର
- (4) ଶନିବାର

Options :

- 212807119117 1
- 212807119118 2
- 212807119119 3
- 212807119120 4

Question Number : 295 Question Id : 21280729780 Question Type : MCQ Option Shuffling : No Is Question Mandatory : No Calculator : None Response Time : N.A Think Time : N.A Minimum Instruction Time : 0

Correct Marks : 5 Wrong Marks : 1

Question Key Details :

Key	Value
Comprehension	MCQ

31 ਦਿਨਾਂ ਦੇ ਇਕ ਮਹੀਨੇ ਵਿਚ, ਤੀਜਾਂ ਸ਼ੁੱਕਰਵਾਰ 17 ਨੂੰ ਆਉਂਦਾ ਹੈ । ਉਸ ਮਹੀਨੇ ਦਾ ਆਖਰੀ ਦਿਨ ਕਿਹੜਾ ਹੋਵੇਗਾ ?

- (1) ਬੁੱਧਵਾਰ
- (2) ਵੀਰਵਾਰ
- (3) ਸ਼ੁੱਕਰਵਾਰ
- (4) ਸ਼ਨਿੱਚਵਾਰ

Options :

212807119117:1  
212807119118:2  
212807119119:3  
212807119120:4

Question Number : 295 Question Id : 21280729780 Question Type : MCQ Option Shuffling : No Is Question Mandatory : No Calculator : None  
Response Time : N.A Think Time : N.A Minimum Instruction Time : 0

Correct Marks : 5 Wrong Marks : 1

Question Key Details :

Key	Value
Comprehension	MCQ

31 நாட்கள் கொண்ட மாதத்தில் மூன்றாவது வெள்ளிக்கிழமை 17ம் தேதி வருகிறது. மாதத்தின் கடைசி நாள் எது?

- (1) புதன்கிழமை
- (2) வியாழக்கிழமை
- (3) வெள்ளிக்கிழமை
- (4) சனிக்கிழமை

Options :

212807119117:1  
212807119118:2  
212807119119:3  
212807119120:4

Question Number : 295 Question Id : 21280729780 Question Type : MCQ Option Shuffling : No Is Question Mandatory : No Calculator : None  
Response Time : N.A Think Time : N.A Minimum Instruction Time : 0

Correct Marks : 5 Wrong Marks : 1

Question Key Details :

Key	Value
Comprehension	MCQ

31 ரூபாய் செலவு, மூடவ சூத்ரவாரம் 17 வ ரூபாய். 8 செலவு விபசி ரூபாய் ఏమిటి ?

- (1) ஸத்வாரம்
- (2) கருவாரம்
- (3) சூத்ரவாரம்
- (4) சனிவாரம்

Options :

212807119117:1  
212807119118:2  
212807119119:3  
212807119120:4

Question Number : 295 Question Id : 21280729780 Question Type : MCQ Option Shuffling : No Is Question Mandatory : No Calculator : None  
Response Time : N.A Think Time : N.A Minimum Instruction Time : 0

Correct Marks : 5 Wrong Marks : 1

Question Key Details :

Key	Value
Comprehension	MCQ

آگستیس دنوں کے مہینے میں تیسرا بعد سترابویں دن پڑتا ہے۔ مہینے کا آخری دن کون سا ہوگا ؟

(1) بدھ

(2) جمعرات

(3) جمعہ

(4) منگل

Options :

212807119117 1

212807119118 2

212807119119 3

212807119120 4

Question Number : 296 Question Id : 21280729781 Question Type : MCQ Option Shuffling : No Is Question Mandatory : No Calculator : None  
Response Time : N.A Think Time : N.A Minimum Instruction Time : 0

Correct Marks : 5 Wrong Marks : 1

Question Key Details :

Key	Value
Comprehension	MCQ

Find the angle traced by hour hand of a correct clock between 7'O Clock and 1'O Clock ?

(1)  $180^\circ$

(2)  $150^\circ$

(3)  $175^\circ$

(4)  $200^\circ$

Options :

212807119121 1

212807119122 2

212807119123 3

212807119124 4

Question Number : 296 Question Id : 21280729781 Question Type : MCQ Option Shuffling : No Is Question Mandatory : No Calculator : None  
Response Time : N.A Think Time : N.A Minimum Instruction Time : 0

Correct Marks : 5 Wrong Marks : 1

Question Key Details :

Key	Value
Comprehension	MCQ

सही समय वाली घड़ी में 7 बजे और 1 बजे के बीच घट्टे वाली सुई के संकेत का कोण ज्ञात कीजिए ?

(1)  $180^\circ$

(2)  $150^\circ$

(3)  $175^\circ$

(4)  $200^\circ$

Options :

212807119121 1

212807119122 2

212807119123 3

212807119124 4

Question Number : 296 Question Id : 21280729781 Question Type : MCQ Option Shuffling : No Is Question Mandatory : No Calculator : None  
Response Time : N.A Think Time : N.A Minimum Instruction Time : 0

Correct Marks : 5 Wrong Marks : 1

Question Key Details :

Key	Value
Comprehension	MCQ

এটা ঘড়ির 7 টা বজাত আৰু 1 টা বজাত থকা খণ্টা কাঁটার মাজৰ কোণটো হ'ব ?

- (1)  $180^\circ$   
 (2)  $150^\circ$   
 (3)  $175^\circ$   
 (4)  $200^\circ$

Options :

- 212807119121-1  
 212807119122-1  
 212807119123-3  
 212807119124-4

Question Number : 296 Question Id : 21280719781 Question Type : MCQ Option Shuffling : No Is Question Mandatory : No Calculator : None  
 Response Time : N.A Think Time : N.A Minimum Instruction Time : 0

Correct Marks : 5 Wrong Marks : 1

Question Key Details :

Key	Value
Comprehension	MCQ

একটি নিৰ্ভুল ঘড়িৰ 7 টা ও 1 টা বাজলে খণ্টাৰ কাঁটাৰ মध्ये উৎপন্ন কোণের মান বুজি বার কৰো।

- (1)  $180^\circ$   
 (2)  $150^\circ$   
 (3)  $175^\circ$   
 (4)  $200^\circ$

Options :

- 212807119121-1  
 212807119122-1  
 212807119123-3  
 212807119124-4

Question Number : 296 Question Id : 21280719781 Question Type : MCQ Option Shuffling : No Is Question Mandatory : No Calculator : None  
 Response Time : N.A Think Time : N.A Minimum Instruction Time : 0

Correct Marks : 5 Wrong Marks : 1

Question Key Details :

Key	Value
Comprehension	MCQ

7 বাজে আৰু 1 বাজে ঘড়িখোলাৰ পৰা ঘড়িখোলা কলাক কাঁটা দ্বাৰা যোগাৰ কৰা হ'ব ?

- (1)  $180^\circ$   
 (2)  $150^\circ$   
 (3)  $175^\circ$   
 (4)  $200^\circ$

Options :

- 212807119121-1  
 212807119122-1  
 212807119123-3  
 212807119124-4

Question Number : 296 Question Id : 21280719781 Question Type : MCQ Option Shuffling : No Is Question Mandatory : No Calculator : None  
 Response Time : N.A Think Time : N.A Minimum Instruction Time : 0

Correct Marks : 5 Wrong Marks : 1

Question Key Details :

Key	Value
-----	-------

Comprehension	MCQ
---------------	-----

ಒಂದು ಸರಿಯಾದ ಗಡಿಯಾರದ 7 ಗಂಟೆ ಮತ್ತು 1 ಗಂಟೆ ನಡುವೆ ಗಂಟೆ ಮುಚ್ಚು ಪತ್ತೆ ಹಚ್ಚುವ ಕೋನವನ್ನು ಗುರುತಿಸಿ ?

- (1)  $180^\circ$
- (2)  $150^\circ$
- (3)  $175^\circ$
- (4)  $200^\circ$

Options :

- 212807119121 1
- 212807119122 2
- 212807119123 3
- 212807119124 4

Question Number : 296 Question Id : 21280729781 Question Type : MCQ Option Shuffling : No Is Question Mandatory : No Calculator : None  
Response Time : N.A Think Time : N.A Minimum Instruction Time : 0

Correct Marks : 5 Wrong Marks : 1

Question Key Details :

Key	Value
Comprehension	MCQ

7 वाजल्यापासून ते 1 वाजेपर्यंत वास काटा किती अंश कोनात फिरतो?

- (1)  $180^\circ$
- (2)  $150^\circ$
- (3)  $175^\circ$
- (4)  $200^\circ$

Options :

- 212807119121 1
- 212807119122 1
- 212807119123 3
- 212807119124 4

Question Number : 296 Question Id : 21280729781 Question Type : MCQ Option Shuffling : No Is Question Mandatory : No Calculator : None  
Response Time : N.A Think Time : N.A Minimum Instruction Time : 0

Correct Marks : 5 Wrong Marks : 1

Question Key Details :

Key	Value
Comprehension	MCQ

ഒരു മേളംകളിന്റെ മണിക്കൂർ സൂചി 7 മണിയിൽ നിന്ന് 1 മണിയിലെത്തുമ്പോൾ രൂപപ്പെടുന്ന കോണിന്റെ അളവ് എത്ര ?

- (1)  $180^\circ$
- (2)  $150^\circ$
- (3)  $175^\circ$
- (4)  $200^\circ$

Options :

- 212807119121 3
- 212807119122 3
- 212807119123 3
- 212807119124 4

Question Number : 296 Question Id : 21280729781 Question Type : MCQ Option Shuffling : No Is Question Mandatory : No Calculator : None  
Response Time : N.A Think Time : N.A Minimum Instruction Time : 0

Correct Marks : 5 Wrong Marks : 1

Question Key Details :

Key	Value





Correct Marks : 5 Wrong Marks : 1

Question Key Details :

Key	Value
Comprehension	MCQ

7 گونڈوں میں سے 1 گونڈا مہذب گنڈیوں میں سے 1 گونڈا مہذب اور 5 گونڈے گنڈیوں میں سے 1 گونڈا مہذب کی تعداد کیا ہے ؟

- (1) 180°  
(2) 150°  
(3) 175°  
(4) 200°

Options :

212807119121 1  
212807119122 2  
212807119123 3  
212807119124 4

Question Number : 296 Question Id : 21280719781 Question Type : MCQ Option Shuffling : No Is Question Mandatory : No Calculator : None  
Response Time : N.A Think Time : N.A Minimum Instruction Time : 0

Correct Marks : 5 Wrong Marks : 1

Question Key Details :

Key	Value
Comprehension	MCQ

1 بجے اور 7 بجے کے درمیان ایک درست گھنٹی کے گھنٹوں کا ٹٹا کے (اوہ کی دریافت کریں۔

- 180° (1)  
150° (2)  
175° (3)  
200° (4)

Options :

212807119121 1  
212807119122 2  
212807119123 3  
212807119124 4

Question Number : 297 Question Id : 21280719782 Question Type : MCQ Option Shuffling : No Is Question Mandatory : No Calculator : None  
Response Time : N.A Think Time : N.A Minimum Instruction Time : 0

Correct Marks : 5 Wrong Marks : 1

Question Key Details :

Key	Value
Comprehension	MCQ

If MACHINE is coded as 15-3-5-10-11-16-7. How will you code DRAGON ?

- (1) 20-6-9-3-17-16  
(2) 6-20-9-3-16-17  
(3) 6-20-3-9-17-16  
(4) 6-20-5-9-15-17

Options :

212807119121 1  
212807119122 2  
212807119123 3  
212807119124 4

Question Number : 297 Question Id : 212807119123 Question Type : MCQ Option Shuffling : No Is Question Mandatory : No Calculator : None  
Response Time : N.A Think Time : N.A Minimum Instruction Time : 0

Correct Marks : 5 Wrong Marks : 1

Question Key Details :

Key	Value
Comprehension	MCQ

यदि MACHINE को 15-3-5-10-11-16-7 के रूप में कूटबद्ध किया जाता है तो आप DRAGON को किस रूप में कूटबद्ध करेंगे ?

- (1) 20-6-9-3-17-16
- (2) 6-20-9-3-16-17
- (3) 6-20-3-9-17-16
- (4) 6-20-5-9-15-17

Options :

212807119123 1

212807119124 1

212807119125 3

212807119126 4

Question Number : 297 Question Id : 212807119124 Question Type : MCQ Option Shuffling : No Is Question Mandatory : No Calculator : None  
Response Time : N.A Think Time : N.A Minimum Instruction Time : 0

Correct Marks : 5 Wrong Marks : 1

Question Key Details :

Key	Value
Comprehension	MCQ

যদি MACHINE ব কোড হচ্ছে 15-3-5-10-11-16-7 তেন্তে DRAGON ব কোডটো কি হ'ব ?

- (1) 20-6-9-3-17-16
- (2) 6-20-9-3-16-17
- (3) 6-20-3-9-17-16
- (4) 6-20-5-9-15-17

Options :

212807119123 1

212807119124 1

212807119125 3

212807119126 4

Question Number : 297 Question Id : 212807119125 Question Type : MCQ Option Shuffling : No Is Question Mandatory : No Calculator : None  
Response Time : N.A Think Time : N.A Minimum Instruction Time : 0

Correct Marks : 5 Wrong Marks : 1

Question Key Details :

Key	Value
Comprehension	MCQ

যদি MACHINE এর সাংকেতিক 15-3-5-10-11-16-7 হয়। DRAGON এর সাংকেতিক কী হবে ?

- (1) 20-6-9-3-17-16
- (2) 6-20-9-3-16-17
- (3) 6-20-3-9-17-16
- (4) 6-20-5-9-15-17

Options :

212807119123 1

212807119124 1

212807119125 3

212807119126 4

Question Number : 297 Question Id : 21280719782 Question Type : MCQ Option Shuffling : No Is Question Mandatory : No Calculator : None  
Response Time : N.A Think Time : N.A Minimum Instruction Time : 0

Correct Marks : 5 Wrong Marks : 1

Question Key Details :

Key	Value
Comprehension	MCQ

जे MACHINE ने 15-3-5-10-11-16-17 तरीके कोड करवावां आवे तो, DRAGON ने तमे केवी रीते कोड करशे?

- (1) 20-6-9-3-17-16
- (2) 6-20-9-3-16-17
- (3) 6-20-3-9-17-16
- (4) 6-20-5-9-15-17

Options :

21280719125 1

21280719126 2

21280719127 3

21280719128 4

Question Number : 297 Question Id : 21280719782 Question Type : MCQ Option Shuffling : No Is Question Mandatory : No Calculator : None  
Response Time : N.A Think Time : N.A Minimum Instruction Time : 0

Correct Marks : 5 Wrong Marks : 1

Question Key Details :

Key	Value
Comprehension	MCQ

MACHINE ओडु 15-3-5-10-11-16-7 अडु संकेतडडड, DRAGON अडु डरवु डेरी संकेतडडड ?

- (1) 20-6-9-3-17-16
- (2) 6-20-9-3-16-17
- (3) 6-20-3-9-17-16
- (4) 6-20-5-9-15-17

Options :

21280719125 1

21280719126 2

21280719127 3

21280719128 4

Question Number : 297 Question Id : 21280719782 Question Type : MCQ Option Shuffling : No Is Question Mandatory : No Calculator : None  
Response Time : N.A Think Time : N.A Minimum Instruction Time : 0

Correct Marks : 5 Wrong Marks : 1

Question Key Details :

Key	Value
Comprehension	MCQ

जर MACHINE चा संकेतांक 15-3-5-10-11-16-7 असेल तर DRAGON चा संकेतांक काय असेल?

- (1) 20-6-9-3-17-16
- (2) 6-20-9-3-16-17
- (3) 6-20-3-9-17-16
- (4) 6-20-5-9-15-17

Options :

21280719125 1

21280719126 2

21280719127 3

21280719128 4

Question Number : 297 Question Id : 21280719782 Question Type : MCQ Option Shuffling : No Is Question Mandatory : No Calculator : None Response Time : N.A Think Time : N.A Minimum Instruction Time : 0

Correct Marks : 5 Wrong Marks : 1

Question Key Details :

Key	Value
Comprehension	MCQ

MACHINE എന്നത് 15-3-5-10-11-16-7 എന്ന എഴുതിയാൽ DRAGON എന്നത് എങ്ങനെ എഴുതും ?

- (1) 20-6-9-3-17-16
- (2) 6-20-9-3-16-17
- (3) 6-20-3-9-17-16
- (4) 6-20-5-9-15-17

Options :

212807119125-1

212807119126-2

212807119127-3

212807119128-4

Question Number : 297 Question Id : 21280719782 Question Type : MCQ Option Shuffling : No Is Question Mandatory : No Calculator : None Response Time : N.A Think Time : N.A Minimum Instruction Time : 0

Correct Marks : 5 Wrong Marks : 1

Question Key Details :

Key	Value
Comprehension	MCQ

ଯଦି MACHINE ର ସଙ୍କେତିକ ସଂଖ୍ୟା 15-3-5-10-11-16-7। ତେବେ DRAGON ର ସଙ୍କେତିକ ସଂଖ୍ୟା କେଉଁଟି ?

- (1) 20-6-9-3-17-16
- (2) 6-20-9-3-16-17
- (3) 6-20-3-9-17-16
- (4) 6-20-5-9-15-17

Options :

212807119125-1

212807119126-2

212807119127-3

212807119128-4

Question Number : 297 Question Id : 21280719782 Question Type : MCQ Option Shuffling : No Is Question Mandatory : No Calculator : None Response Time : N.A Think Time : N.A Minimum Instruction Time : 0

Correct Marks : 5 Wrong Marks : 1

Question Key Details :

Key	Value
Comprehension	MCQ

ਅਗਰ MACHINE ਨੂੰ 15-3-5-10-11-16-7 ਦੇ ਤੌਰ ਤੇ ਕੋਡਬੱਧ ਕੀਤਾ ਤਾਂ ਤੁਸੀਂ DRAGON ਦਾ ਕੋਡ ਕਿਵੇਂ ਕਰੋਗੇ ?

- (1) 20-6-9-3-17-16
- (2) 6-20-9-3-16-17
- (3) 6-20-3-9-17-16
- (4) 6-20-5-9-15-17

Options :

212807119125-1

212807119126-2

212807119127-3

212807119128-4

Question Number : 297 Question Id : 21280729782 Question Type : MCQ Option Shuffling : No Is Question Mandatory : No Calculator : None  
Response Time : N.A Think Time : N.A Minimum Instruction Time : 0

Correct Marks : 5 Wrong Marks : 1

Question Key Details :

Key	Value
Comprehension	MCQ

MACHINE 15-3-5-10-11-16-7 என குறியிடப்பட்டால், DRAGON குறியீட்டை எவ்வாறு குறியிடுவீர்கள்?

- (1) 20-6-9-3-17-16
- (2) 6-20-9-3-16-17
- (3) 6-20-3-9-17-16
- (4) 6-20-5-9-15-17

Options :

212807119125 1  
212807119126 2  
212807119127 3  
212807119128 4

Question Number : 297 Question Id : 21280729782 Question Type : MCQ Option Shuffling : No Is Question Mandatory : No Calculator : None  
Response Time : N.A Think Time : N.A Minimum Instruction Time : 0

Correct Marks : 5 Wrong Marks : 1

Question Key Details :

Key	Value
Comprehension	MCQ

MACHINE 15-3-5-10-11-16-7 కోడెల రాష్ట్ర DRAGON కోడ్ ఏమిటి ?

- (1) 20-6-9-3-17-16
- (2) 6-20-9-3-16-17
- (3) 6-20-3-9-17-16
- (4) 6-20-5-9-15-17

Options :

212807119125 1  
212807119126 2  
212807119127 3  
212807119128 4

Question Number : 297 Question Id : 21280729782 Question Type : MCQ Option Shuffling : No Is Question Mandatory : No Calculator : None  
Response Time : N.A Think Time : N.A Minimum Instruction Time : 0

Correct Marks : 5 Wrong Marks : 1

Question Key Details :

Key	Value
Comprehension	MCQ

DRAGON آپ کو کیا جائے گا؟ 15-3-5-10-11-16-7 MACHINE

- 20-6-9-3-17-16 (1)
- 6-20-9-3-16-17 (2)
- 6-20-3-9-17-16 (3)
- 6-20-5-9-15-17 (4)

Options :

212807119125 1  
212807119126 2  
212807119127 3  
212807119128 4

Question Number : 298 Question Id : 21280729783 Question Type : MCQ Option Shuffling : No Is Question Mandatory : No Calculator : None  
Response Time : N.A Think Time : N.A Minimum Instruction Time : 0  
Correct Marks : 5 Wrong Marks : 1

Question Key Details :

Key	Value
Comprehension	MCQ

How many son's does W have ?

Statements : I X's father has three children.

II Y is X's brother and son of W.

Read the question & statements (I & II). Decide whether the data provides in the statement are sufficient to answer the question.

- (1) If I alone is sufficient, while II alone is not sufficient
- (2) If II alone is sufficient, while I alone is not sufficient
- (3) If I & II together are not sufficient
- (4) If both I & II together are necessary to answer the questions

Options :

212807119129 1  
212807119130 2  
212807119131 3  
212807119132 4

Question Number : 298 Question Id : 21280729783 Question Type : MCQ Option Shuffling : No Is Question Mandatory : No Calculator : None  
Response Time : N.A Think Time : N.A Minimum Instruction Time : 0  
Correct Marks : 5 Wrong Marks : 1

Question Key Details :

Key	Value
Comprehension	MCQ

W के कितने पुत्र हैं ?

कथन : I X के पिता के तीन बच्चे हैं।

II Y, X का भाई है और W का पुत्र है।

प्रश्न और कथन (I और II) पढ़ें। निर्णय कीजिए कि क्या कथन में दिए गए आँकड़े प्रश्न का उत्तर देने के लिए पर्याप्त हैं।

- (1) यदि केवल कथन - I पर्याप्त है, तो केवल कथन - II पर्याप्त नहीं है।
- (2) यदि केवल कथन - II पर्याप्त है, तो केवल कथन - I पर्याप्त नहीं है।
- (3) यदि कथन - I और II मिलकर पर्याप्त नहीं है।
- (4) यदि कथन - I और II मिलकर प्रश्न का उत्तर देने के लिए आवश्यक नहीं हैं।

Options :

212807119129 1  
212807119130 2  
212807119131 3  
212807119132 4

Question Number : 298 Question Id : 21280729783 Question Type : MCQ Option Shuffling : No Is Question Mandatory : No Calculator : None  
Response Time : N.A Think Time : N.A Minimum Instruction Time : 0  
Correct Marks : 5 Wrong Marks : 1

Question Key Details :

Key	Value
Comprehension	MCCQ

'W' ব কেইজন পুত্র আছে ?

উক্তি : I 'X' বাপেকৰ 3 টা সন্তান

II 'Y' হৈছে 'X' ব ভায়েক আৰু 'W' ব পুত্ৰক।

প্রশ্নটো আৰু উক্তি কেইটা (I আৰু II) পঢ়া আৰু সিদ্ধান্ত পোৱা যে উক্তিসমূহত দিয়া তথ্যবিশি প্রশ্নটোৰ উত্তৰ দিবলৈ যথেষ্ট নে নাই।

- (1) যদি I অকলে যথেষ্ট, তেন্তে II অকলে যথেষ্ট নহয়।
- (2) যদি II অকলে যথেষ্ট, তেন্তে I অকলে যথেষ্ট নহয়।
- (3) যদি I আৰু II একেলগে যথেষ্ট নহয়।
- (4) যদি I আৰু II দুয়োটাৰে যথেষ্ট উত্তৰ দিবলৈ যথেষ্ট।

Options :

- 212807119129 : 1  
212807119130 : 2  
212807119131 : 3  
212807119132 : 4

Question Number : 298 Question Id : 21280729783 Question Type : MCQ Option Shuffling : No Is Question Mandatory : No Calculator : None  
Response Time : N.A Think Time : N.A Minimum Instruction Time : 0

Correct Marks : 5 Wrong Marks : 1

Question Key Details :

Key	Value
Comprehension	MCCQ

'W' এর কতগুলো পুত্র আছে ?

উক্তি : I 'X' এর পিতার তিন সন্তান।

উক্তি : II 'Y' হল 'X' এর ভাই এবং 'W' এর পুত্র।

প্রশ্ন ও বিবৃতি (I ও II) পড়ো। যে তথ্য প্রদান করা হয়েছে বিবৃতিতে তা প্রশ্নটির উত্তর দেওয়ার জন্য যথেষ্ট।

- (1) যদি I একাই যথেষ্ট, যেখানে II একাই যথেষ্ট নয়।
- (2) যদি II একাই যথেষ্ট, যেখানে I একাই যথেষ্ট নয়।
- (3) যদি I এবং II একত্রে যথেষ্ট নয়।
- (4) যদি উত্তর I এবং II একত্রে প্রয়োজনীয় প্রশ্নটি উত্তর দেওয়ার জন্য

Options :

- 212807119129 : 1  
212807119130 : 2  
212807119131 : 3  
212807119132 : 4

Question Number : 298 Question Id : 21280729783 Question Type : MCQ Option Shuffling : No Is Question Mandatory : No Calculator : None  
Response Time : N.A Think Time : N.A Minimum Instruction Time : 0

Correct Marks : 5 Wrong Marks : 1

Question Key Details :

Key	Value
Comprehension	MCCQ



W કેટલા પુત્રો ધરાવે છે?

વિધાન : I X ના પિતાને ત્રણ બાળકો છે.

વિધાન : II Y એ X નો ભાઈ અને W નો પુત્ર છે.

પ્રશ્ન અને વિધાનો (I & II) વાંચો. નિવેદનમાં આપેલ માહિતી પ્રશ્નનો જવાબ આપવા માટે પૂરતી છે કે કેમ તે નક્કી કરો.

- (1) બે I એકલો પૂરતો છે, જ્યારે II એકલો પૂરતો નથી.
- (2) બે II એકલો પૂરતો છે, જ્યારે I એકલો પૂરતો નથી.
- (3) I અને II સાથે પૂરતો નથી.
- (4) બંને I & II સાથે પ્રશ્નોના જવાબ માટે જરૂરી છે.

Options :

212807119129 : 1

212807119130 : 2

212807119131 : 3

212807119132 : 4

Question Number : 298 Question Id : 21280719783 Question Type : MCQ Option Shuffling : No Is Question Mandatory : No Calculator : None  
Response Time : N/A Think Time : N/A Minimum Instruction Time : 0

Correct Marks : 5 Wrong Marks : 1

Question Key Details :

Key	Value
Comprehension	MCQ

W એટલું પુત્રો ધરાવે છે ?

વિધાન I : X ને ત્રણ પુત્રો મળ્યા છે.

વિધાન II : Y એ X નો ભાઈ અને W નો પુત્ર છે.

પ્રશ્ન અને વિધાનો (I અને II) વાંચો. નિવેદનમાં આપેલ માહિતી પ્રશ્નનો જવાબ આપવા માટે પૂરતી છે કે કેમ તે નક્કી કરો.

- (1) I માત્ર જવાબદાર છે, II માત્ર જવાબદાર નથી.
- (2) II માત્ર જવાબદાર છે, I માત્ર જવાબદાર નથી.
- (3) I અને II બંને જવાબદાર નથી.
- (4) I અને II બંને જવાબદાર છે.

Options :

212807119129 : 1

212807119130 : 2

212807119131 : 3

212807119132 : 4

Question Number : 298 Question Id : 21280719783 Question Type : MCQ Option Shuffling : No Is Question Mandatory : No Calculator : None  
Response Time : N/A Think Time : N/A Minimum Instruction Time : 0

Correct Marks : 5 Wrong Marks : 1

Question Key Details :

Key	Value
Comprehension	MCQ

W ला एकूण किती मुले आहेत?

**विधान : I** X च्या वडिलांना तीन अपत्य आहेत.

**II** Y हा X चा भाऊ आणि W चा मुलगा आहे.

खरील प्रश्न आणि विधाने वाचा. विधानांमध्ये देण्यात आलेली माहिती प्रश्नाचे उत्तर देण्यासाठी पुरेशी आहे का, ते ठरवा.

- (1) केवळ विधान I पुरेसे आहे; परंतु केवळ विधान II पुरेसे नाही
- (2) केवळ विधान II पुरेसे आहे; परंतु केवळ विधान I पुरेसे नाही
- (3) विधान I आणि II दोन्हीही पुरेसे नाहीत
- (4) प्रश्नाचे उत्तर देण्यासाठी विधान I आणि II दोन्ही आवश्यक आहेत

Options :

212807119129 : 1

212807119130 : 2

212807119131 : 3

212807119132 : 4

Question Number : 298 Question Id : 21280729783 Question Type : MCQ Option Shuffling : No Is Question Mandatory : No Calculator : None  
Response Time : N.A Think Time : N.A Minimum Instruction Time : 0

Correct Marks : 5 Wrong Marks : 1

Question Key Details :

Key	Value
Comprehension	MCQ

W वीनं എത്ര ആളുകൾ ഉണ്ട് ?

**Statements : I** X ന്റെ അച്ഛന് മൂന്ന് കുട്ടികൾ ഉണ്ട്.

**II** Y, X ന്റെ സഹോദരനും W ന്റെ മകനും ആണ്.

ചോദ്യവും പ്രസ്താവനകളും വായിച്ചതിന് ശേഷം, പ്രസ്താവനകളിൽ തന്നിട്ടുള്ള വിവരങ്ങൾ ചോദ്യത്തിന് ഉത്തരം കണ്ടെത്താൻ പര്യാപ്തമാണോ എന്ന് തീരുമാനിക്കുക.

- (1) I മാത്രം പര്യാപ്തമാണെങ്കിൽ, II മാത്രം പര്യാപ്തമല്ല
- (2) II മാത്രം പര്യാപ്തമാണെങ്കിൽ, I മാത്രം പര്യാപ്തമല്ല
- (3) I ഉം II ഉം കൂടി പര്യാപ്തമല്ലെങ്കിൽ
- (4) ചോദ്യത്തിന് ഉത്തരം കിട്ടാൻ രണ്ട് പ്രസ്താവനകളും ആവശ്യമാണെങ്കിൽ

Options :

212807119129 : 1

212807119130 : 2

212807119131 : 3

212807119132 : 4

Question Number : 298 Question Id : 21280729783 Question Type : MCQ Option Shuffling : No Is Question Mandatory : No Calculator : None  
Response Time : N.A Think Time : N.A Minimum Instruction Time : 0

Correct Marks : 5 Wrong Marks : 1

Question Key Details :

Key	Value
Comprehension	MCQ

W ਕੇ ਕੋਲੋ ਸਾਬਕਾ ਪੁਸ਼ਟ ਕਰੋ ?

ਕਥਨ I: X ਨੇ ਕਮਰਾ 3 ਨੂੰ ਖਰੀਦਿਆ।

ਕਥਨ II: Y ਨੇ ਕਮਰਾ X ਨੂੰ ਖਰੀਦਿਆ ਅਤੇ W ਨੂੰ ਵੇਚਿਆ।

ਪੁਸ਼ਟ ਕਰੋ ਕਿ ਕਥਨ (I ਅਤੇ II) ਕੀ ਸਹੀ ਹਨ। ਚਿੰਨ੍ਹ ਕੋਲੋ ਸਹੀ ਕਥਨ ਚਿੰਨ੍ਹ ਚੁਣੋ।

- (1) ਕਥਨ I ਸਹੀ ਹੈ, ਕਥਨ II ਸਹੀ ਨਹੀਂ ਹੈ।
- (2) ਕਥਨ II ਸਹੀ ਹੈ, ਕਥਨ I ਸਹੀ ਨਹੀਂ ਹੈ।
- (3) ਕਥਨ I ਅਤੇ II ਦੋਵੇਂ ਸਹੀ ਹਨ।
- (4) ਕਥਨ I ਅਤੇ II ਦੋਵੇਂ ਸਹੀ ਨਹੀਂ ਹਨ।

Options :

212807119129 1

212807119130 2

212807119131 3

212807119132 4

Question Number : 298 Question Id : 21280719783 Question Type : MCQ Option Shuffling : No Is Question Mandatory : No Calculator : None  
Response Time : N.A Think Time : N.A Minimum Instruction Time : 0

Correct Marks : 5 Wrong Marks : 1

Question Key Details :

Key	Value
Comprehension	MCQ

W ਦੇ ਕਿੱਠੇ ਪੁੱਤਰ ਹਨ?

ਬਿਆਨ : I X's ਪਿਤਾ ਦੇ ਤਿੰਨ ਬੱਚੇ ਹਨ।

ਬਿਆਨ : II Y X's ਦਾ ਭਰਾ ਅਤੇ W ਦਾ ਬੇਟਾ ਹੈ।

ਹੇਠਾਂ ਦਿੱਤੇ ਪ੍ਰਸ਼ਨ ਅਤੇ ਬਿਆਨ (I ਅਤੇ II) ਪੜ੍ਹੋ। ਫੈਸਲਾ ਕਰੋ ਕਿ ਬਿਆਨ ਵਿਚ ਦਿੱਤਾ ਗਿਆ ਡਾਟਾ ਸਵਾਲ ਦਾ ਜਵਾਬ ਦੇਣ ਲਈ ਕਾਫੀ ਹੈ।

- (1) ਅਗਰ I ਇਕੱਲਾ ਕਾਫੀ ਹੈ, ਜਦੋਂ ਕਿ ਇਕੱਲਾ II ਇਸ ਲਈ ਕਾਫੀ ਨਹੀਂ ਹੈ।
- (2) ਅਗਰ II ਇਕੱਲਾ ਕਾਫੀ ਹੈ, ਜਦੋਂ ਕਿ I ਇਕੱਲਾ ਕਾਫੀ ਨਹੀਂ ਹੈ।
- (3) ਅਗਰ I ਅਤੇ II ਦੋਵੇਂ ਕਾਫੀ ਨਹੀਂ ਹਨ।
- (4) ਅਗਰ ਦੋਵੇਂ I ਅਤੇ II ਇਕੱਠੇ ਸਵਾਲ ਦਾ ਜਵਾਬ ਦੇਣ ਲਈ ਜ਼ਰੂਰੀ ਹਨ।

Options :

212807119129 1

212807119130 2

212807119131 3

212807119132 4

Question Number : 295 Question Id : 21280719783 Question Type : MCQ Option Shuffling : No Is Question Mandatory : No Calculator : None  
Response Time : N.A Think Time : N.A Minimum Instruction Time : 0

Correct Marks : 5 Wrong Marks : 1

Question Key Details :

Key	Value
Comprehension	MCQ

பிள்ளு-க்கு எத்தனை மகன்கள்?

வாக்குமூலம் : I எக்ஸின் தந்தைக்கு மூன்று பிள்ளைகள்.

II Y என்பவர் X இன் சகோதரர் மற்றும் W இன் மகன் ஆவார்.

கேள்வி மற்றும் அறிக்கைகளைப் படியுங்கள் ( & "). கேள்விக்கு பதிலளிக்க அறிக்கையில் உள்ள தரவுகள் போதுமானதா என்பதை தீர்மானிக்கவும்.

- (1) I மட்டும் போதுமாயிருப்பின், II மட்டும் போதாது.
- (2) II மட்டும் போதுமானது, நான் மட்டும் போதாது.
- (3) I & II ஒன்றாக போதுமானதாக இல்லை என்றால்.
- (4) கேள்விகளுக்கு பதிலளிக்க I மற்றும் II இரண்டும் ஒன்றாக தேவைப்பட்டால்.

Options :

- 212807119129 1
- 212807119130 2
- 212807119131 3
- 212807119132 4

Question Number : 298 Question Id : 21280729783 Question Type : MCQ Option Shuffling : No Is Question Mandatory : No Calculator : None Response Time : N.A Think Time : N.A Minimum Instruction Time : 0

Correct Marks : 5 Wrong Marks : 1

Question Key Details :

Key	Value
Comprehension	MCQ

W కి ఎంత మంది కొడుకులున్నారు ?

ప్రకటన I : X యొక్క తండ్రికి ముగ్గురు పిల్లలు

ప్రకటన II : Y అతను X యొక్క సహోదరుడు మరియు W కొడుకు.

ఇచ్చిన ప్రకటనలలోని దత్తాంశం ప్రశ్నకు సమాధానమివ్వడానికి సరిపోతుందా లేదా గుర్తించండి.

- (1) I స్వతంత్రంగా సరిపోతుంది కాగా II స్వతంత్రంగా సరిపోదు.
- (2) II స్వతంత్రంగా సరిపోతుంది కాగా I స్వతంత్రంగా సరిపోదు.
- (3) I & II కలిసి కూడా సరిపోవు.
- (4) I & II రెండూ ప్రశ్నకు సమాధానమివ్వడానికి అవసరం.

Options :

- 212807119129 1
- 212807119130 2
- 212807119131 3
- 212807119132 4

Question Number : 298 Question Id : 21280729783 Question Type : MCQ Option Shuffling : No Is Question Mandatory : No Calculator : None Response Time : N.A Think Time : N.A Minimum Instruction Time : 0

Correct Marks : 5 Wrong Marks : 1

Question Key Details :

Key	Value
Comprehension	MCQ

W کے کتنے بیٹے ہیں؟

بیان I : X کے والد کے تین بیٹے ہیں۔

بیان II : X، Y کا بھائی اور W کا بیٹا ہے۔

سوال اور بیانات (I & II) کو پڑھیں اور فیصلہ کریں کہ کیا بیان میں دیا گیا ڈیٹا سوال کا جواب دینے کے لیے کافی ہے۔

- (1) بیان I تنہا کافی ہے جبکہ II تنہا کافی نہیں ہے
- (2) بیان II تنہا کافی ہے جبکہ I تنہا کافی نہیں ہے
- (3) بیان I اور بیان II ساتھ ساتھ کافی نہیں ہیں
- (4) بیان I اور بیان II ساتھ ساتھ جواب دینے کے لیے ضروری ہے

Options :

112807119129 1

212807119130 2

212807119131 3

212807119132 4

Question Number : 299 Question Id : 21280729784 Question Type : MCQ Option Shuffling : No Is Question Mandatory : No Calculator : None  
Response Time : N.A Think Time : N.A Minimum Instruction Time : 0

Correct Marks : 5 Wrong Marks : 1

Question Key Details :

Key	Value
Comprehension	MCQ

What number is opposite to 3 in the dice shown below, the given positions are of the same dice.



- (1) 2
- (2) 4
- (3) 5
- (4) 6

Options :

212807119133 1

212807119134 2

212807119135 3

212807119136 4

Question Number : 299 Question Id : 21280729784 Question Type : MCQ Option Shuffling : No Is Question Mandatory : No Calculator : None  
Response Time : N.A Think Time : N.A Minimum Instruction Time : 0

Correct Marks : 5 Wrong Marks : 1

Question Key Details :

Key	Value
Comprehension	MCQ

नीचे दर्शाए गए पासे में 3 के सामने कौन-सी संख्या है। प्रदर्शित स्थितियाँ इसी पासे की हैं।



- (1) 2  
(2) 4  
(3) 5  
(4) 6

Options :

- 212807119133.1  
212807119134.2  
212807119135.3  
212807119136.4

Question Number : 299 Question Id : 21280719784 Question Type : MCQ Option Shuffling : No Is Question Mandatory : No Calculator : None  
Response Time : N.A Think Time : N.A Minimum-Instruction Time : 0

Correct Marks : 5 Wrong Marks : 1

Question Key Details :

Key	Value
Comprehension	MCQ

तलत देखुंवा पाशाउटित '3' विपरीते कौनटो संख्या आछे, तलत दिय़ा छिबकेइटा एकेइ पाशाउटिब भिन्न अबहुन।



- (1) 2  
(2) 4  
(3) 5  
(4) 6

Options :

- 212807119133.1  
212807119134.2  
212807119135.3  
212807119136.4

Question Number : 299 Question Id : 21280719784 Question Type : MCQ Option Shuffling : No Is Question Mandatory : No Calculator : None  
Response Time : N.A Think Time : N.A Minimum-Instruction Time : 0

Correct Marks : 5 Wrong Marks : 1

Question Key Details :

Key	Value
Comprehension	MCQ

निम्ने प्रदर्शित छकार 3 एउ विपरीते कौन संख्या आछे। निम्ने प्रदर्शित छकारि एकेइ छका।



- (1) 2  
(2) 4  
(3) 5  
(4) 6

Options :

- 212807119133.1  
212807119134.2

212507119133 3  
212507119136 4

Question Number : 299 Question Id : 21250719784 Question Type : MCQ Option Shuffling : No Is Question Mandatory : No Calculator : None  
Response Time : N.A Think Time : N.A Minimum Instruction Time : 0

Correct Marks : 5 Wrong Marks : 1

Question Key Details :

Key	Value
Comprehension	MCQ

બતાવેલ પાસા માં 3 ની વિરુદ્ધ કર્ સંખ્યા છે? આપેલ વિકલ્પ સમાન પાસાનો છે,



- (1) 2  
(2) 4  
(3) 5  
(4) 6

Options :

212507119133 1  
212507119134 2  
212507119135 3  
212507119136 4

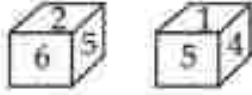
Question Number : 299 Question Id : 21250719784 Question Type : MCQ Option Shuffling : No Is Question Mandatory : No Calculator : None  
Response Time : N.A Think Time : N.A Minimum Instruction Time : 0

Correct Marks : 5 Wrong Marks : 1

Question Key Details :

Key	Value
Comprehension	MCQ

કેલેન્ડરના પાસામાં 3 ક્કે વિરુદ્ધ વાગીರುವ સંખ્યા કયું ? નીચેના વિકલ્પોમાં કયો પાસાનો છે.



- (1) 2  
(2) 4  
(3) 5  
(4) 6

Options :

212507119133 1  
212507119134 2  
212507119135 3  
212507119136 4

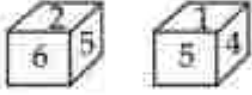
Question Number : 299 Question Id : 21250719784 Question Type : MCQ Option Shuffling : No Is Question Mandatory : No Calculator : None  
Response Time : N.A Think Time : N.A Minimum Instruction Time : 0

Correct Marks : 5 Wrong Marks : 1

Question Key Details :

Key	Value
Comprehension	MCQ

खाली दिलेल्या फासांच्या आकृतीत 3 च्या विरुद्ध कोणती संख्या असेल? खाली दिलेल्या आकृतीतील फासांच्या स्थिती एकाच फासाच्या आहेत.



- (1) 2
- (2) 4
- (3) 5
- (4) 6

Options :

- 112807119133 1
- 112807119134 2
- 112807119135 3
- 112807119136 4

Question Number : 299 Question Id : 21280729784 Question Type : MCQ Option Shuffling : No Is Question Mandatory : No Calculator : None Response Time : N.A Think Time : N.A Minimum Instruction Time : 0

Correct Marks : 5 Wrong Marks : 1

Question Key Details :

Key	Value
Comprehension	MCQ

ഒരു ഡൈസിന്റെ രണ്ട് രീതിയിലുള്ള ചിത്രീകരണങ്ങൾ തന്നിരിക്കുന്നു. ഈ ഡൈസിന്റെ 3 വരുന്ന ഭാഗത്തിന് നേരെ ഏതിർഭാഗത്തുള്ള നമ്പർ എത്രയായിരിക്കും ?



- (1) 2
- (2) 4
- (3) 5
- (4) 6

Options :

- 112807119133 1
- 112807119134 2
- 112807119135 3
- 112807119136 4

Question Number : 299 Question Id : 21280729784 Question Type : MCQ Option Shuffling : No Is Question Mandatory : No Calculator : None Response Time : N.A Think Time : N.A Minimum Instruction Time : 0

Correct Marks : 5 Wrong Marks : 1

Question Key Details :

Key	Value
Comprehension	MCQ

ନିମ୍ନରେ ପ୍ରଦତ୍ତ ଦୁଇ ସମାନ କୁରୁଗୋଟିରେ m ସଂଖ୍ୟାର ବିପରୀତରେ କେଉଁ ସଂଖ୍ୟାଟି ରହିଛି ?



- (1) 2
- (2) 4
- (3) 5
- (4) 6





دو مکعبی کعبوں کی صورتیں دی گئی ہیں۔



ان دو کعبوں کے 3 کے ساتھ مل کر کتنے مکعبی کعبے بنائے جاسکتے ہیں؟

- (1) 2  
(2) 4  
(3) 5  
(4) 6

Options :

212807119133 1

212807119134 2

212807119135 3

212807119136 4

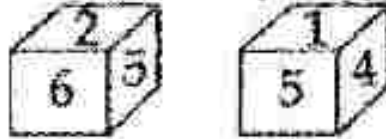
Question Number : 299 Question Id : 21280719784 Question Type : MCQ Option Shuffling : No Is Question Mandatory : No Calculator : None  
Response Time : N.A Think Time : N.A Minimum Instruction Time : 0

Correct Marks : 5 Wrong Marks : 1

Question Key Details :

Key	Value
Comprehension	MCQ

دو مکعبی کعبوں کی صورتیں دی گئی ہیں۔ ان دو کعبوں کے 3 کے ساتھ مل کر کتنے مکعبی کعبے بنائے جاسکتے ہیں۔



- 2 (1)  
4 (2)  
5 (3)  
6 (4)

Options :

212807119133 1

212807119134 2

212807119135 3

212807119136 4

Question Number : 300 Question Id : 21280719785 Question Type : MCQ Option Shuffling : No Is Question Mandatory : No Calculator : None  
Response Time : N.A Think Time : N.A Minimum Instruction Time : 0

Correct Marks : 5 Wrong Marks : 1

Question Key Details :

Key	Value
Comprehension	MCQ

Given below are two statements : one is labelled as **Assertion (A)** and the other is labelled as **Reason (R)**.

**Assertion (A)** : Mahatma Gandhi is considered as 'Father of Nation' in India.

**Reason (R)** : Mahatma Gandhi was the First Governor General of Independent India.

In the light of the above statements, choose the **most appropriate** answer from the options given below :

- (1) Both (A) and (R) are correct and (R) is the correct explanation of (A)
- (2) Both (A) and (R) are correct but (R) is **not** the correct explanation of (A)
- (3) (A) is correct but (R) is not correct
- (4) (A) is not correct but (R) is correct

Options :

212807119137 1

212807119138 2

212807119139 3

212807119140 4

Question Number : 300 Question Id : 21280719785 Question Type : MCQ Option Shuffling : No Is Question Mandatory : No Calculator : None  
Response Time : N.A Think Time : N.A Minimum Instruction Time : 0

Correct Marks : 5 Wrong Marks : 1

Question Key Details :

Key	Value
Comprehension	MCQ

नीचे दो कथन दिए गए हैं: एक **अभिकथन (A)** के रूप में लिखित है तो दूसरा उसके **कारण (R)** के रूप में है।

**अभिकथन (A)** : भारत में महात्मा गाँधी को 'राष्ट्रपिता' माना जाता है।

**कारण (R)** : महात्मा गाँधी स्वतंत्र भारत के प्रथम गवर्नर जनरल थे।

उपरोक्त कथन के आलोक में, नीचे दिए गए विकल्पों में से **सही** उत्तर चयन कीजिए:

- (1) दोनों (A) और (R) सत्य हैं और (R), (A) की सही व्याख्या है
- (2) दोनों (A) और (R) सत्य हैं लेकिन (R), (A) की सही व्याख्या नहीं है
- (3) (A) सत्य है, लेकिन (R) असत्य है
- (4) (A) असत्य है, लेकिन (R) सत्य है

Options :

212807119127 1

212807119138 2

212807119139 3

212807119140 4

Question Number : 300 Question Id : 21280719785 Question Type : MCQ Option Shuffling : No Is Question Mandatory : No Calculator : None  
Response Time : N.A Think Time : N.A Minimum Instruction Time : 0

Correct Marks : 5 Wrong Marks : 1

Question Key Details :

Key	Value
Comprehension	MCQ

তলত দুটা উক্তি দিয়া আছে : এটা হৈছে দাবী (A) আৰু আনটো হৈছে যুক্তি (R) :

দাবী (A) : মহাত্মা গান্ধীক ভাৰতত 'দেশৰ পিতা' হিচাপে গণ্য কৰা হয়।

যুক্তি (R) : মহাত্মা গান্ধী স্বাধীন ভাৰতৰ প্ৰথমজন ৰাষ্ট্ৰপ্ৰধান আছিল।

ওপৰোক্ত উক্তি দুটাৰ ভিত্তিত তলত দিয়া বিকল্পবোৰৰ পৰা আটাইতকৈ যথাৰ্থ উত্তৰটো বাছি উলিওৱা :

- (1) (A) আৰু (R) শুদ্ধ আৰু (R) হৈছে (A) ৰ শুদ্ধ ব্যাখ্যা।
- (2) (A) আৰু (R) শুদ্ধ আৰু (R) হৈছে (A) ৰ শুদ্ধ ব্যাখ্যা নহয়।
- (3) (A) শুদ্ধ কিন্তু (R) অশুদ্ধ।
- (4) (A) অশুদ্ধ কিন্তু (R) শুদ্ধ।

Options :

212807119137 1

212807119138 2

212807119139 3

212807119140 4

Question Number : 300 Question Id : 21280719785 Question Type : MCQ Option Shuffling : No Is Question Mandatory : No Calculator : None  
Response Time : N.A Think Time : N.A Minimum Instruction Time : 0

Correct Marks : 5 Wrong Marks : 1

Question Key Details :

Key	Value
Comprehension	MCQ

নিম্নে দুটি বিবৃতি দেওয়া হল : একটিকে লেবেল কৰা হয়েছে দাবী/ফলাফল (A) এবং অপরটিকে লেবেল কৰা হয়েছে কাৰণ (R) হিসেবে :

দাবী/ফলাফল (A) : ভাৰতে মহাত্মা গান্ধীকে 'জাতির জনক' হিসেবে বিবেচনা কৰা হয়।

কাৰণ (R) : মহাত্মা গান্ধী ছিল স্বাধীন ভাৰতের প্ৰথম ৰাষ্ট্ৰপাল।

উপৰোক্ত বিবৃতিৰ আলোকে, নিম্নৰ বিকল্পগুলি থেকে সবচেয়ে উপযুক্ত উত্তৰটি নিৰ্বাচন কৰো :

- (1) উভয় (A) এবং (R) সঠিক এবং (R) হল (A) এর সঠিক ব্যাখ্যা।
- (2) উভয় (A) এবং (R) সঠিক এবং (R) সঠিক ব্যাখ্যা নয় (A) এর।
- (3) (A) সঠিক কিন্তু (R) সঠিক নয়।
- (4) (A) সঠিক নয় কিন্তু (R) সঠিক।

Options :

212807119137 1

212807119138 2

212807119139 3

212807119140 4

Question Number : 300 Question Id : 21280719785 Question Type : MCQ Option Shuffling : No Is Question Mandatory : No Calculator : None  
Response Time : N.A Think Time : N.A Minimum Instruction Time : 0

Correct Marks : 5 Wrong Marks : 1

Question Key Details :

Key	Value
Comprehension	MCQ



पुढे दोन विधाने दिलेली आहेत : एकाच विधान **प्रतिपादन (A)** व दुसऱ्याला **कारण (R)** असे संबोधले आहे.

**प्रतिपादन (A) :** महात्मा गांधींना भारतात राष्ट्रपिता मानले जाते.

**कारण (R) :** महात्मा गांधी हे स्वतंत्र भारताचे पहिले गव्हर्नर जनरल होते.

खरील विधानांच्या आधारे पुढीलपैकी **सर्वाधिक योग्य** पर्याय निवडा.

- (1) (A) आणि (R) दोन्ही खरोबर असून (R) हे (A) चे योग्य स्पष्टीकरण आहे.
- (2) (A) आणि (R) दोन्ही खरोबर आहेत, परंतु (R) हे (A) चे योग्य स्पष्टीकरण नाही.
- (3) (A) योग्य आहे परंतु (R) चूक आहे
- (4) (A) चूक आहे परंतु (R) खरोबर आहे

Options :

212807119137 1

212807119138 2

212807119139 3

212807119140 4

Question Number : 300 Question Id : 21280719785 Question Type : MCQ Option Shuffling : No Is Question Mandatory : No Calculator : None  
Response Time : N.A Think Time : N.A Minimum Instruction Time : 0

Correct Marks : 5 Wrong Marks : 1

Question Key Details :

Key	Value
Comprehension	MCQ

രണ്ട് പ്രസ്താവനകൾ തന്നിരിക്കുന്നു. പ്രസ്താവന ഒന്ന് അസത്യമാണ് (A) എന്നും പ്രസ്താവന രണ്ട് റീസൺ (R) എന്നും അവപ്പെടുത്തിയിരിക്കുന്നു.

**അസത്യമാണ് (A) :** മഹാത്മാ ഗാന്ധി ഇന്ത്യയുടെ രാഷ്ട്രപിതാവായി കണക്കാക്കപ്പെടുന്നു.

**റീസൺ (R) :** മഹാത്മാ ഗാന്ധി സ്വതന്ത്ര ഇന്ത്യയുടെ ആദ്യത്തെ ഗവർണർ ജനറൽ ആയിരുന്നു. മുകളിൽ തന്നിട്ടുള്ള പ്രസ്താവനകളുടെ വെളിച്ചത്തിൽ, താഴെ തന്നിട്ടുള്ളവയിൽ നിന്നും **ഏറ്റവും അനുയോജ്യമായ** ഉത്തരം തിരഞ്ഞെടുക്കുക.

- (1) (A) യും (R) ഉം ശരിയാണ്. (R), (A) യ്ക്കുള്ള കൃത്യമായ വിശദീകരണമാണ്.
- (2) (A) യും (R) ഉം ശരിയാണ്. പക്ഷെ (R), (A) യ്ക്കുള്ള കൃത്യമായ വിശദീകരണമല്ല.
- (3) (A) ശരിയാണ് പക്ഷെ (R) ശരിയല്ല.
- (4) (A) ശരിയല്ല പക്ഷെ (R) ശരിയാണ്.

Options :

212807119137 1

212807119138 2

212807119139 3

212807119140 4

Question Number : 300 Question Id : 21280719785 Question Type : MCQ Option Shuffling : No Is Question Mandatory : No Calculator : None  
Response Time : N.A Think Time : N.A Minimum Instruction Time : 0

Correct Marks : 5 Wrong Marks : 1

Question Key Details :

Key	Value
Comprehension	MCQ

ਚਰੇ ਵੱਲੋਂ ਕਈ ਵੇਰਿਆਂ। ਚੋਰੀ-ਚੋਰੀ (A) ਵਰਾ ਅਜਾਹੇ ਕਾਰਣ (R) ਕੁਝ ਵੇਰਿਆਂ।

ਕਈ (A) : ਸਮਾਜਿਕਾਣੀ ਕਾਰਣ ਕਾਰਣ ਚੋਰੀ ਕੁਝ ਵੇਰਿਆਂ।

ਕਾਰਣ (R) : ਸੁਖਮ ਕਾਰਣ ਸਮਾਜਿਕਾਣੀ ਸੁਖਮ ਕਾਰਣ ਕਾਰਣ।

ਕੁਝ ਵੇਰਿਆਂ ਕਈ ਵੇਰਿਆਂ ਚੋਰੀ-ਚੋਰੀ ਕੁਝ ਵੇਰਿਆਂ।

(1) ਕਈ (A) ਵਰਾ (R) ਕੁਝ ਵੇਰਿਆਂ (R), (A) ਕੁਝ ਵੇਰਿਆਂ।

(2) ਕਈ (A) ਵਰਾ (R) ਕੁਝ ਵੇਰਿਆਂ (R), (A) ਕੁਝ ਵੇਰਿਆਂ।

(3) (A) ਕੁਝ ਵੇਰਿਆਂ (R) ਕੁਝ ਵੇਰਿਆਂ।

(4) (A) ਕੁਝ ਵੇਰਿਆਂ (R) ਕੁਝ ਵੇਰਿਆਂ।

Options :

212807119137 1

212807119138 2

212807119139 3

212807119140 4

Question Number : 300 Question Id : 21280719785 Question Type : MCQ Option Shuffling : No Is Question Mandatory : No Calculator : None  
Response Time : N.A Think Time : N.A Minimum Instruction Time : 0

Correct Marks : 5 Wrong Marks : 1

Question Key Details :

Key	Value
Comprehension	MCQ

ਹੇਠਾਂ ਦੇ ਬਿਆਨ ਦਿੱਤੇ ਹਨ ਇਕ ਲੇਖਲ ਹੈ ਦਾਅਵਾ (A) ਅਤੇ ਦੂਜਾ ਲੇਖਲ ਹੈ ਕਾਰਣ (R)।

ਦਾਅਵਾ (A) : ਮਹਾਤਮਾ ਗਾਂਧੀ ਨੂੰ ਭਾਰਤ ਵਿਚ ਰਾਸ਼ਟਰ ਪਿਤਾ ਮੰਨਿਆ ਜਾਂਦਾ ਹੈ।

ਕਾਰਣ (R) : ਮਹਾਤਮਾ ਗਾਂਧੀ ਆਜ਼ਾਦ ਭਾਰਤ ਦੇ ਪਹਿਲੇ ਗਵਰਨਰ ਜਨਰਲ ਸਨ।

ਉੱਪਰ ਦਿੱਤੇ ਬਿਆਨਾਂ ਦੀ ਰੋਸ਼ਨੀ ਵਿਚ ਹੇਠਾਂ ਦਿੱਤੇ ਵਿਕਲਪਾਂ ਵਿਚੋਂ ਸਭ ਤੋਂ ਢੁਕਵਾਂ ਉੱਤਰ ਲੱਭੋ :

(1) ਦੋਵੇਂ (A) ਅਤੇ (R) ਸਹੀ ਹਨ ਅਤੇ (R) ਠੀਕ ਵਿਆਖਿਆ ਹੈ (A) ਦੀ।

(2) ਦੋਵੇਂ (A) ਅਤੇ (R) ਸਹੀ ਹਨ ਪਰ (R) ਠੀਕ ਵਿਆਖਿਆ ਨਹੀਂ ਹੈ (A) ਦੀ।

(3) (A) ਸਹੀ ਹੈ ਪਰ (R) ਸਹੀ ਨਹੀਂ ਹੈ।

(4) (A) ਸਹੀ ਨਹੀਂ ਹੈ ਪਰ (R) ਸਹੀ ਹੈ।

Options :

212807119137 1

212807119138 2

212807119139 3

212807119140 4

Question Number : 300 Question Id : 21280719785 Question Type : MCQ Option Shuffling : No Is Question Mandatory : No Calculator : None  
Response Time : N.A Think Time : N.A Minimum Instruction Time : 0

Correct Marks : 5 Wrong Marks : 1

Question Key Details :

Key	Value
Comprehension	MCQ

కీழేమి కొడుకులకు ఉన్న ఇరண்டு కుర్తులు ఉన్నా : ఇప్పుడు  
 వలెపురుత్తల (A) అన్నం మురుగునీరు పుత్తలమీది (R) అన్నం  
 పురుగునీరు ఉన్నా.

వలెపురుత్తల (A) : మకామి కుర్తు ఇరండియాలి 'తేమి తనై' అన్నం  
 కుర్తులకు ఉన్నా.

కారణం (R) : మకామి కుర్తు కుర్తు ఇరండియాలి ముత్తల కుర్తుల  
 ఇరండియాలి ఉన్నా.

మేమేమి ఉన్న అరండియాలిల వలెపురుత్తల , కీழేమి కొడుకులకు ఉన్న  
 వలెపురుత్తలలెరుత్తుమిలమి పురుత్తలమి పురుత్తల తేమిలకు.

- (1) (A) ముత్తల (R) ఇరండియాలి శరీయాలె ముత్తల (R) అన్నం (A) ఇరండియాలి  
 వలెపురుత్తల
- (2) (A) ముత్తల (R) ఇరండియాలి శరీయాలె , అన్నం (R) (A) ఇరండియాలి  
 వలెపురుత్తల అన్నం
- (3) (A) శరీయాలె అన్నం (R) శరీయాలె అన్నం
- (4) (A) శరీయాలె అన్నం, అన్నం (R) శరీయాలె

Options :

212807119137 1

212807119138 2

212807119139 3

212807119140 4

Question Number : 399 Question Id : 21280719785 Question Type : MCQ Option Shuffling : No Is Question Mandatory : No Calculator : None  
 Response Time : N.A Think Time : N.A Minimum Instruction Time : 0

Correct Marks : 5 Wrong Marks : 1

Question Key Details :

Key	Value
Comprehension	MCQ

కొంకి కొంకి పురుత్తల. ఒకటి కుర్తు (A) ముత్తల కుర్తు (R).

కుర్తు (A) : పురుత్తలమి ముత్తల కొంకి 'కొంకి' కొంకి ఉన్నా.

కుర్తు (R) : పురుత్తల పురుత్తల కొంకి కొంకి ముత్తల కొంకి.

పై పురుత్తల అన్నం, పురుత్తల అన్నం ఉన్నా.

- (1) (A) ముత్తల (R) కొంకి పురుత్తల (A) ముత్తల పురుత్తల పురుత్తల (R).
- (2) (A) ముత్తల (R) కొంకి పురుత్తల (A) ముత్తల పురుత్తల (R) కొంకి.
- (3) (A) పురుత్తల కొంకి (R) పురుత్తల కొంకి.
- (4) (A) పురుత్తల కొంకి (R) పురుత్తల.

Options :

212807119137 1

212807119138 2

212807119139 3

212807119140 4

Question Number : 399 Question Id : 21280719785 Question Type : MCQ Option Shuffling : No Is Question Mandatory : No Calculator : None  
 Response Time : N.A Think Time : N.A Minimum Instruction Time : 0



Correct Marks : 5 Wrong Marks : 1

Question Key Details :

Key	Value
Comprehension	MCQ

نیچے دو بیانات دئے گئے ہیں ایک دعویٰ (A) اور دوسرا دلیل (R) ہے۔

دعویٰ (A) مہاتما گاندھی کو ہانے قوم کہا جاتا ہے

دلیل (R) مہاتما گاندھی آزاد ہندوستان کے پہلے گورنر جنرل تھے

اوپر دیے گئے بیانات کی روشنی میں مندرجہ ذیل میں سے سب سے درست جواب کی نشاندہی کریں۔

(1) دعویٰ (A) اور دلیل (R) دونوں درست ہے اور دلیل دعویٰ کی درست توجیح ہے

(2) دعویٰ (A) اور دلیل (R) دونوں درست ہے لیکن دلیل دعویٰ کی درست توجیح نہیں ہے

(3) دعویٰ (A) درست ہے لیکن دلیل (R) درست نہیں ہے

(4) دعویٰ (A) درست نہیں ہے لیکن دلیل (R) درست ہے

Options :

- 212807119127 1
- 212807119138 2
- 212807119139 3
- 212807119140 4

Question Number : 301 Question Id : 21280729786 Question Type : MCQ Option Shuffling : No Is Question Mandatory : No Calculator : None  
Response Time : N.A Think Time : N.A Minimum Instruction Time : 0

Correct Marks : 5 Wrong Marks : 1

Question Key Details :

Key	Value
Comprehension	MCQ

A man walks 10 m in front and then 10 m to the right. Then every time returning to his left, he walks 5, 15 and 15 m, respectively. How far is he now from his starting point ?

(1) 5 m

(2) 10 m

(3) 15 m

(4) 16 m

Options :

- 212807119141 1
- 212807119142 2
- 212807119143 3
- 212807119144 4

Question Number : 301 Question Id : 21280729786 Question Type : MCQ Option Shuffling : No Is Question Mandatory : No Calculator : None  
Response Time : N.A Think Time : N.A Minimum Instruction Time : 0

Correct Marks : 5 Wrong Marks : 1

Question Key Details :

Key	Value
Comprehension	MCQ

एक पुरुष अपने सामने की ओर 10 मीटर पैदल चलता है और दाईं ओर 10 मीटर चलता है। लौटते समय हर बार अपनी बाईं ओर क्रमशः 5, 15 और 15 मीटर चलता है। तो अब वह अपने आरम्भिक बिंदु से कितनी दूर है ?

- (1) 5 मीटर
- (2) 10 मीटर
- (3) 15 मीटर
- (4) 16 मीटर

Options :

212807119141 1  
212807119142 2  
212807119143 3  
212807119144 4

Question Number : 301 Question Id : 21280719756 Question Type : MCQ Option Shuffling : No Is Question Mandatory : No Calculator : None  
Response Time : N.A Think Time : N.A Minimum Instruction Time : 0

Correct Marks : 5 Wrong Marks : 1

Question Key Details :

Key	Value
Comprehension	MCQ

এজন মানুহে সম্মুখলৈ 10 মিটাৰ খোজকাঢ়ি আকৌ সোঁফালে 10 মিটাৰ খোজ কাঢ়িলে। প্ৰত্যেকবাৰেই তেওঁ বাঁওপিনে ঘূৰি আহোঁতে তেওঁ ক্ৰমান্বয়ে 5, 15 আৰু 15 মিটাৰ খোজকাঢ়িলে। তেওঁৰ আৰম্ভণি স্থানৰ পৰা কিমান দূৰত আছে ?

- (1) 5 মিটাৰ
- (2) 10 মিটাৰ
- (3) 15 মিটাৰ
- (4) 16 মিটাৰ

Options :

212807119141 1  
212807119142 2  
212807119143 3  
212807119144 4

Question Number : 301 Question Id : 21280719756 Question Type : MCQ Option Shuffling : No Is Question Mandatory : No Calculator : None  
Response Time : N.A Think Time : N.A Minimum Instruction Time : 0

Correct Marks : 5 Wrong Marks : 1

Question Key Details :

Key	Value
Comprehension	MCQ

এক ব্যক্তি 10 মিটাৰ সম্মুখে হাঁটলেন এবং তারপর ডানদিকে 10 মিটাৰ। তারপর প্রতিবার তার বামদিকে ফিরে, তিনি যথাক্রমে 5, 15 এবং 15 মিটাৰ হাঁটলেন। তিনি তার প্রাথমিক অবস্থা থেকে কত দূরে আছেন ?

- (1) 5 মিটাৰ
- (2) 10 মিটাৰ
- (3) 15 মিটাৰ
- (4) 16 মিটাৰ

Options :

212807119141 1  
212807119142 2  
212807119143 3  
212807119144 4

Question Number : 301 Question Id : 21280719786 Question Type : MCQ Option Shuffling : No Is Question Mandatory : No Calculator : None  
Response Time : N.A Think Time : N.A Minimum Instruction Time : 0

Correct Marks : 5 Wrong Marks : 1

Question Key Details :

Key	Value
Comprehension	MCQ

એક માણસ 10 મીટર આગળ અને 10 મીટર જમણી તરફ ચાલે છે. દર વખતે ત્યારે તેની ડાબી તરફ પાછા કરે છે ત્યારે તે અનુક્રમે 5, 13 અને 15 મીટર ચાલે છે તે હવે તેના પ્રારંભિક બિંદુ થી કેટલો દુર છે?

- (1) 5 મીટર
- (2) 10 મીટર
- (3) 15 મીટર
- (4) 16 મીટર

Options :

212807119141 1

212807119142 2

212807119143 3

212807119144 4

Question Number : 301 Question Id : 21280719786 Question Type : MCQ Option Shuffling : No Is Question Mandatory : No Calculator : None  
Response Time : N.A Think Time : N.A Minimum Instruction Time : 0

Correct Marks : 5 Wrong Marks : 1

Question Key Details :

Key	Value
Comprehension	MCQ

ઢૂબ્ણ વ્યક્તિયુ 10 મિલિટર મુનુદે મુવુ 10 મિલિટર બલકુ નહેયુકુને. વુકુ ડુડુ અવન ંકકુ પુનુતુયુગુસુગ, અવનુ અનુકુસુસુગ 5, 15 મુવુ 15 મિલિટરુગુ નહેયુકુને. અવનુગુ કુનુ સુવુરુબુકુ સુકુદુનુદુ ંકકુ કુરુદુલુલુકુ ?

- (1) 5 મિલિટરુગુ
- (2) 10 મિલિટરુગુ
- (3) 15 મિલિટરુગુ
- (4) 16 મિલિટરુગુ

Options :

212807119141 1

212807119142 2

212807119143 3

212807119144 4

Question Number : 301 Question Id : 21280719786 Question Type : MCQ Option Shuffling : No Is Question Mandatory : No Calculator : None  
Response Time : N.A Think Time : N.A Minimum Instruction Time : 0

Correct Marks : 5 Wrong Marks : 1

Question Key Details :

Key	Value
Comprehension	MCQ



212507119143 3  
212507119144 4

Question Number : 301 Question Id : 21250719756 Question Type : MCQ Option Shuffling : No Is Question Mandatory : No Calculator : None  
Response Time : N.A Think Time : N.A Minimum Instruction Time : 0

Correct Marks : 5 Wrong Marks : 1

Question Key Details :

Key	Value
Comprehension	MCQ

ਇਕ ਆਦਮੀ 10 ਮੀਟਰ ਅੱਗੇ ਤੇ 10 ਮੀਟਰ ਸੱਜੇ ਤੁਰਦਾ ਹੈ ਹਰ ਵਾਰ ਆਪਣੇ ਖੱਬੇ ਮੁੜਦਿਆਂ ਉਹ 5, 15 ਅਤੇ 15 ਮੀਟਰ ਕ੍ਰਮਵਾਰ ਤੁਰਦਾ ਹੈ। ਹੁਣ ਉਹ ਆਪਣੇ ਚੱਲਣ ਵਾਲੇ ਬਿੰਦੂ ਤੋਂ ਕਿੰਨੀ ਦੂਰ ਹੈ?

- (1) 5 ਮੀਟਰ
- (2) 10 ਮੀਟਰ
- (3) 15 ਮੀਟਰ
- (4) 16 ਮੀਟਰ

Options :

212507119141 1  
212507119142 2  
212507119143 3  
212507119144 4

Question Number : 301 Question Id : 21250719756 Question Type : MCQ Option Shuffling : No Is Question Mandatory : No Calculator : None  
Response Time : N.A Think Time : N.A Minimum Instruction Time : 0

Correct Marks : 5 Wrong Marks : 1

Question Key Details :

Key	Value
Comprehension	MCQ

ஒரு மனிதன் முன்னால் 10 மீட்டரும், பின்னர் வலதுபுறம் 10 மீட்டரும் நடக்கிறான். பின்னர் ஒவ்வொரு முறையும் இடது பக்கம் திரும்பும் போது, அவர் முறையே 5, 15 மற்றும் 15 மீட்டர் நடக்கிறார். அவர் இப்போது தனது தொடக்க புள்ளியிலிருந்து எவ்வளவு தொலைவில் இருக்கிறார்?

- (1) 5 மீட்டர்
- (2) 10 மீட்டர்
- (3) 15 மீட்டர்
- (4) 16 மீட்டர்

Options :

212507119141 1  
212507119142 2  
212507119143 3  
212507119144 4

Question Number : 301 Question Id : 21250719756 Question Type : MCQ Option Shuffling : No Is Question Mandatory : No Calculator : None  
Response Time : N.A Think Time : N.A Minimum Instruction Time : 0

Correct Marks : 5 Wrong Marks : 1

Question Key Details :

Key	Value
Comprehension	MCQ

ఒక వ్యక్తి 10 మీటర్లు ముందుకు మరియు 10 మీటర్లు కుడివైపు నడిచాడు. ప్రతిసారి ఎడమవైపు తిరిగినప్పుడు వరుసగా అతను 5, 15 మరియు 15 మీటర్లు నడిచాడు. తన ప్రారంభ స్థానం నుండి ఎంత దూరంలో ఉన్నాడు ?

- (1) 5 మీటర్లు
- (2) 10 మీటర్లు
- (3) 15 మీటర్లు
- (4) 16 మీటర్లు

Options :

212807119141: 3

212807119142: 3

212807119143: 3

212807119144: 4

Question Number : 301 Question Id : 21280729756 Question Type : MCQ Option Shuffling : No Is Question Mandatory : No Calculator : None  
Response Time : N.A Think Time : N.A Minimum Instruction Time : 0

Correct Marks : 5 Wrong Marks : 1

Question Key Details :

Key	Value
Comprehension	MCQ

ایک شخص سامنے سے دس میٹر چلتا ہے پھر دائینی جانب دس میٹر چلتا ہے۔ اپنے بائیں جانب مڑتے ہوئے ہر بار بالترتیب پانچ میٹر پندرہ میٹر اور پھر پندرہ میٹر چلتا ہے۔ اب وہ اپنے سیدھے نقطہ سے کتنی دوری پر ہے۔

(1) 5 میٹر

(2) 10 میٹر

(3) 15 میٹر

(4) 16 میٹر

Options :

212807119141: 3

212807119142: 3

212807119143: 3

212807119144: 4

Question Number : 302 Question Id : 21280729757 Question Type : MCQ Option Shuffling : No Is Question Mandatory : No Calculator : None  
Response Time : N.A Think Time : N.A Minimum Instruction Time : 0

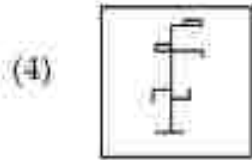
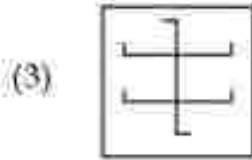
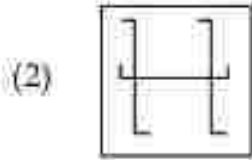
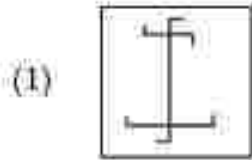
Correct Marks : 5 Wrong Marks : 1

Question Key Details :

Key	Value
Comprehension	MCQ



In which among the following figure the above figure is embedded ?



Options :

212907119145-1

212907119146-2

212907119147-3

212907119148-4

Question Number : 292 Question Id : 21290719787 Question Type : MCQ Option Shuffling : No Is Question Mandatory : No Calculator : None  
Response Time : N.A Think Time : N.A Minimum Instruction Time : 0

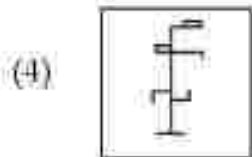
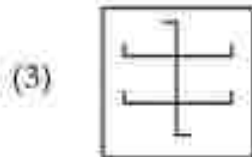
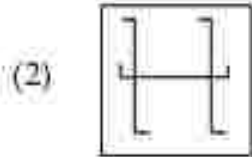
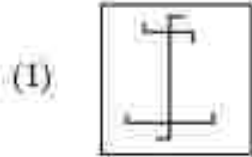
Correct Marks : 5 Wrong Marks : 1

Question Key Details :

Key	Value
Comprehension	MCQ



निम्नलिखित आकृतियों में से कौन-सी उपर्युक्त आकृति में सल्लिहित है ?



Options :

112207119145 1

112207119146 2

112207119147 3

112207119148 4

Question Number : 302 Question Id : 11220729787 Question Type : MCQ Option Skuffling : No Is Question Mandatory : No Calculator : None  
Response Time : N.A Think Time : N.A Minimum Instruction Time : 0

Correct Marks : 5 Wrong Marks : 1

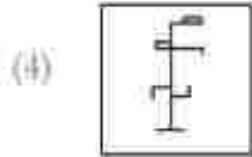
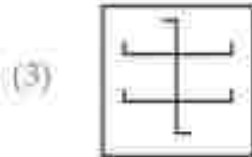
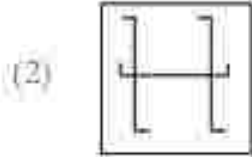
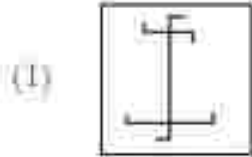
Question Key Details :

Key	Value
Comprehension	MCQ





উক্ত চিত্রটি তলব কোনটো চিত্রত সোমাই আছে ?



Options :

112207119145 1

112207119146 2

112207119147 3

112207119148 4

Question Number : 302 Question Id : 21260729787 Question Type : MCQ Option Skuffling : No Is Question Mandatory : No Calculator : None  
Response Time : N.A Think Time : N.A Minimum Instruction Time : 0

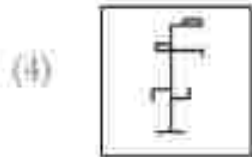
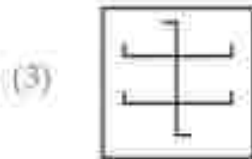
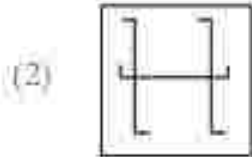
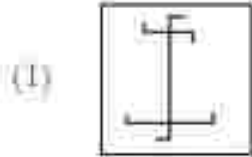
Correct Marks : 5 Wrong Marks : 1

Question Key Details :

Key	Value
Comprehension	MCQ



উপরোক্ত চিত্রটি নিম্নের কোন চিত্রে স্থাপন করা যাবে ?



Options :

112207119143 1

112207119146 2

112207119147 3

112207119149 4

Question Number : 302 Question Id : 11220729787 Question Type : MCQ Option Skuffling : No Is Question Mandatory : No Calculator : None  
Response Time : N.A Think Time : N.A Minimum Instruction Time : 0

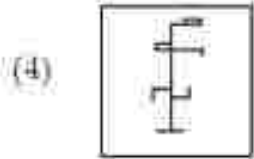
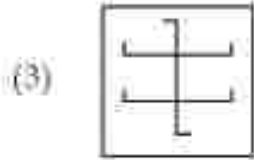
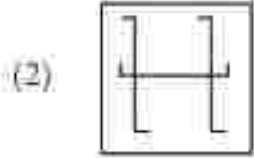
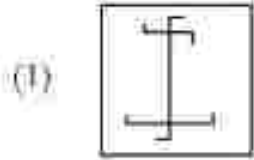
Correct Marks : 5 Wrong Marks : 1

Question Key Details :

Key	Value
Comprehension	MCQ



નીચે આપેલ આકૃતિ પૈકી કઈ ઉપરની આકૃતિ સખધા (embedded) કરે છે?



Options :

212907119145-1

212907119146-2

212907119147-3

212907119148-4

Question Number : 302 Question Id : 21290719787 Question Type : MCQ Option Shuffling : No Is Question Mandatory : No Calculator : None  
Response Time : N.A Think Time : N.A Minimum Instruction Time : 0

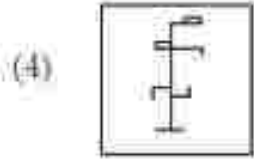
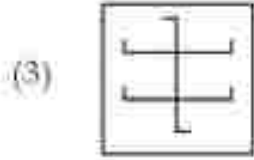
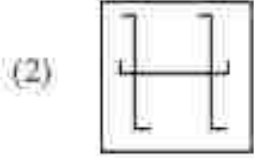
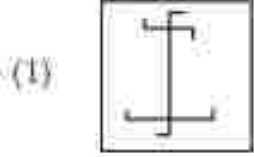
Correct Marks : 5 Wrong Marks : 1

Question Key Details :

Key	Value
Comprehension	MCQ



ಕೆಳಗಿನವುಗಳಲ್ಲಿ ಯಾವ ಚಿತ್ರವು ಮೇಲಿನ ಚಿತ್ರವನ್ನು ಎದುರಿಸುತ್ತದೆ ?



Options :

112107119143 1

112107119146 2

112107119147 3

112107119149 4

Question Number : 302 Question Id : 112107129787 Question Type : MCQ Option Skuffling : No Is Question Mandatory : No Calculator : None  
Response Time : N.A Think Time : N.A Minimum Instruction Time : 0

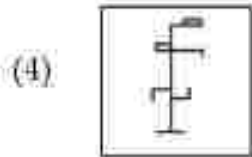
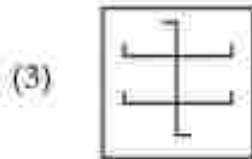
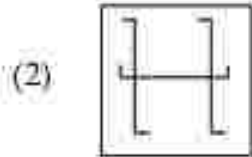
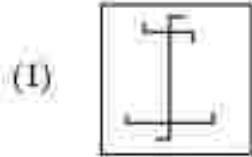
Correct Marks : 5 Wrong Marks : 1

Question Key Details :

Key	Value
Comprehension	MCQ



चरील आकृती पुढीलपैकी कोणत्या आकृतीत योग्य पद्धतीने बसवता येईल ?



Options :

112807119145 1

112807119146 2

112807119147 3

112807119148 4

Question Number : 302 Question Id : 21280729787 Question Type : MCQ Option Skuffling : No Is Question Mandatory : No Calculator : None  
Response Time : N.A Think Time : N.A Minimum Instruction Time : 0

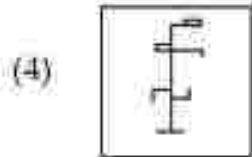
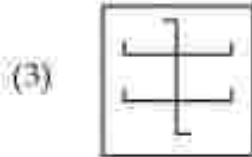
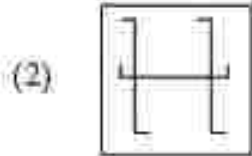
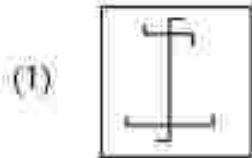
Correct Marks : 5 Wrong Marks : 1

Question Key Details :

Key	Value
Comprehension	MCQ



മുകളിൽ തന്നിട്ടുള്ള ചിത്രം ഉള്ളടങ്ങിയിട്ടുള്ള ചിത്രീകരണം താഴെ തന്നിട്ടുള്ളവയിൽ നിന്ന് കണ്ടെത്തുക.



Options :

212807119145 1

212807119146 2

212807119147 3

212807119148 4

Question Number : 302 Question Id : 21280729787 Question Type : MCQ Option Shuffling : No Is Question Mandatory : No Calculator : None

Response Time : N.A Think Time : N.A Minimum Instruction Time : 0

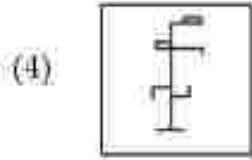
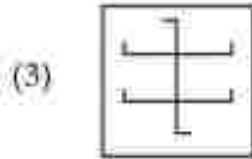
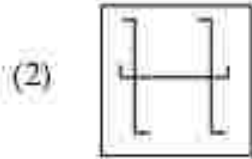
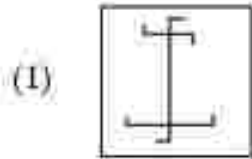
Correct Marks : 5 Wrong Marks : 1

Question Key Details :

Key	Value
Comprehension	MCQ



ନିମ୍ନୋକ୍ତ ନିରୂପାଣକ ମଧ୍ୟରୁ ଉପରୋକ୍ତ ଚେନିଁ ଛବିଟିକୁ ଏକତେରୁ ଭବିତା ?



Options :

112207119145 1

112207119146 2

112207119147 3

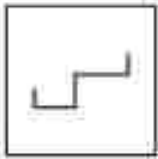
112207119148 4

Question Number : 302 Question Id : 11220729787 Question Type : MCQ Option Skuffling : No Is Question Mandatory : No Calculator : None  
Response Time : N.A Think Time : N.A Minimum Instruction Time : 0

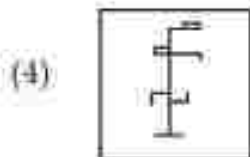
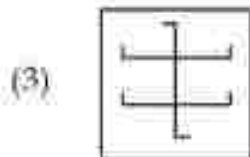
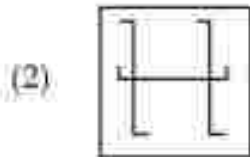
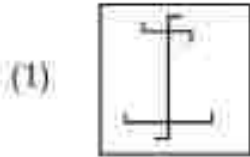
Correct Marks : 5 Wrong Marks : 1

Question Key Details :

Key	Value
Comprehension	MCQ



ਹੇਠਾਂ ਦਿੱਤੇ ਚਿਤਰਾਂ ਵਿੱਚੋਂ ਉਪਰੋਕਤ ਦਾ ਮੁਕਾਬਲਾ ਕਿਸ ਵਿਚ ਕੀਤਾ ਹੈ?



Options :

212807119145 1

212807119146 2

212807119147 3

212807119148 4

Question Number : 302 Question Id : 21280719767 Question Type : MCQ Option Shuffling : No Is Question Mandatory : No Calculator : None  
Response Time : N.A Think Time : N.A Minimum Instruction Time : 0

Correct Marks : 5 Wrong Marks : 1

Question Key Details :


Key	Value
Comprehension	MCQ



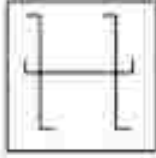


பின்வரும் படத்தில் மேலே உள்ள படம் எதில் பொதிந்துள்ளது ?

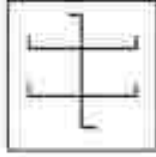
(1)



(2)



(3)



(4)



Options :

212807119145 3

212807119146 3

212807119147 3

212807119148 4

Question Number : 302 Question Id : 21280729787 Question Type : MCQ Option Shuffling : No Is Question Mandatory : No Calculator : None

Response Time : N.A Think Time : N.A Minimum Instruction Time : 0

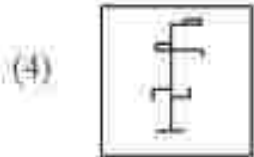
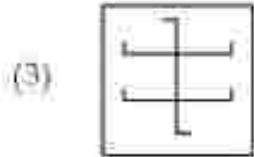
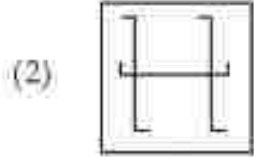
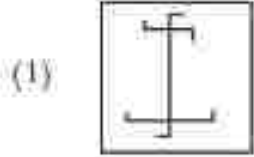
Correct Marks : 5 Wrong Marks : 1

Question Key Details :

Key	Value
Comprehension	MCQ



పై వటం కింది ఏ వటంతో నిరోధించబడును ?



Options :

- 212807119145:1
- 212807119146:1
- 212807119147:3
- 212807119148:4

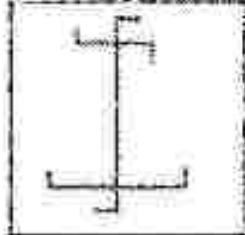
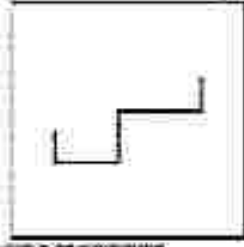
Question Number : 302 Question Id : 21280729787 Question Type : MCQ Option Shuffling : No Is Question Mandatory : No Calculator : None  
Response Time : N.A Think Time : N.A Minimum Instruction Time : 0

Correct Marks : 5 Wrong Marks : 1

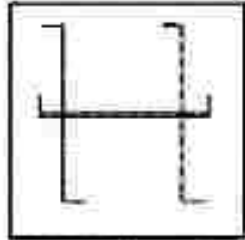
Question Key Details :

Key	Value
Comprehension	MCQ

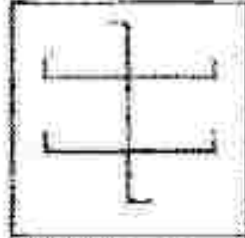
اوپر دئے گئے شکل میں مندرجہ ذیل میں سے کون سی شکل درست بیٹھنے کی۔



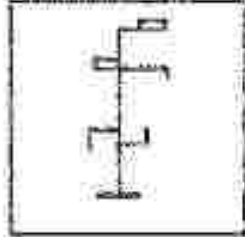
(1)



(2)



(3)



(4)

Options :

112807119145 1

112807119146 2

112807119147 3

112807119148 4


Question Number : 303 Question Id : 21280729788 Question Type : MCQ Option Shuffling : No Is Question Mandatory : No Calculator : None:  
Response Time : N.A Think Time : N.A Minimum Instruction Time : 0





Correct Marks : 5 Wrong Marks : 1

Question Key Details :

Key	Value
Comprehension	MCQ

Which figure out of given options can replace '?'.



- (1) 
- (2) 
- (3) 
- (4) 

Options :

112807119149 1

112807119150 2

112807119151 3

112807119152 4

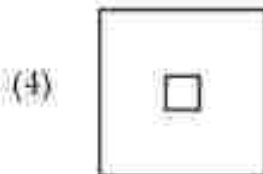
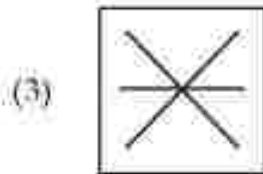
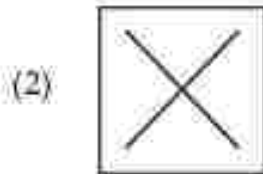


Question Number : 303 Question Id : 21280729788 Question Type : MCQ Option Skuffling : No Is Question Mandatory : No Calculator : None  
 Response Time : N.A Think Time : N.A Minimum Instruction Time : 0

Correct Marks : 5 Wrong Marks : 1

Question Key Details :

Key	Value
Comprehension	MCQ

नीचे दिए गए विकल्पों में से कौन '?' को प्रतिस्थापित कर सकता है ?



Options :

212807119149-1

212807119150-2

212807119151-3

212807119152-4


Question Number : 303 Question Id : 21280729735 Question Type : MCQ Option Shuffling : No Is Question Mandatory : No Calculator : None  
Response Time : N.A Think Time : N.A Minimum Instruction Time : 0

Correct Marks : 5 Wrong Marks : 1

Question Key Details :

Key	Value
Comprehension	MCQ

তলৰ কোনটো চিত্ৰ (১) প্ৰস্তুতিৰূপে স্থানত বহিব ?



- (1)
- (2)
- (3)
- (4)

Options :

212807119149 1

212807119150 2

212807119151 3

212807119152 4


Question Number : 303 Question Id : 21280719788 Question Type : MCQ Option Shuffling : No Is Question Mandatory : No Calculator : None  
Response Time : N.A Think Time : N.A Minimum Instruction Time : 0

Correct Marks : 5 Wrong Marks : 1

Question Key Detail :

Key	Value
Comprehension	MCQ

প্রশ্ন (১) চিত্রিত স্থানে কোন চিত্রটি বসবে ?



- (1)
- (2)
- (3)
- (4)

Options :

- 212807119149 1  
 212807119150 2  
 212807119151 3  
 212807119152 4


Question Number : 303 Question Id : 21280719788 Question Type : MCQ Option Shuffling : No Is Question Mandatory : No Calculator : None  
 Response Time : N.A Think Time : N.A Minimum Instruction Time : 0

Correct Marks : 5 Wrong Marks : 1

Question Key Details :

Key	Value
Comprehension	MCQ

આપેલા વિકલ્પોમાંથી ઠીક આકૃતિ તેને બદલી શકે છે?



- (1)
- (2)
- (3)
- (4)

Options :

212807119149-1

212807119150-2

212807119151-3

212807119152-4

Question Number : 303 Question Id : 21280719788 Question Type : MCQ Option Shuffling : No Is Question Mandatory : No Calculator : None

Response Time : N.A Think Time : N.A Minimum Instruction Time : 0

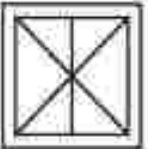



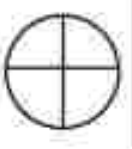



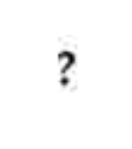
Correct Marks : 5 Wrong Marks : 1



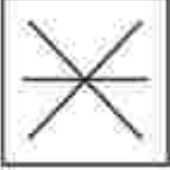

Question Key Detail :

Key	Value
comprehension	MCQ



ಕೆಳಗಿನ ಅಯ್ಯಗಳಿಂದ ಪ್ರತ್ಯಾಭಾಕ ಚಿಹ್ನೆಯು ಜಾಗವನ್ನು ಪೂರ್ತಿಗೊಳಿಸಿ.

- (1) 
- (2) 
- (3) 
- (4) 

Options :

212507119149 : 1

212507119150 : 2

212507119151 : 3

212507119152 : 4

Question Number : 303 Question Id : 212507119735 Question Type : MCQ Option Shuffling : No Is Question Mandatory : No Calculator : None


Response Time : N.A Think Time : N.A Minimum Instruction Time : 0

Correct Marks : 5 Wrong Marks : 1

Question Key Details :

Key	Value
Comprehension	MCQ

प्रश्न चिन्हाच्या जागी कोणती आकृती असेल?



- (1)
- (2)
- (3)
- (4)

Options :

- 212807119149 1  
 212807119150 2  
 212807119151 3  
 212807119152 4

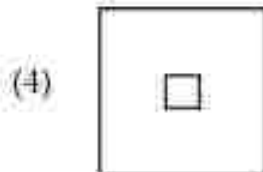
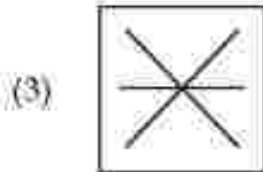
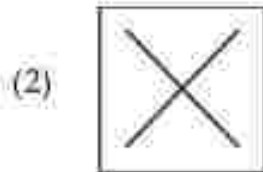
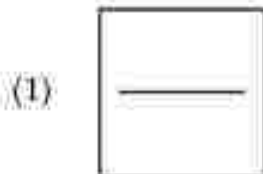

Question Number : 303 Question Id : 21280719788 Question Type : MCQ Option Shuffling : No Is Question Mandatory : No Calculator : None  
 Response Time : N.A Think Time : N.A Minimum Instruction Time : 0

Correct Marks : 5 Wrong Marks : 1

Question Key Details :

Key	Value
Comprehension	MCQ

ചോദ്യ ചിഹ്നം നൽകിയിരിക്കുന്ന കോളങ്ങളിൽ ചേർക്കേണ്ട ചിത്രം തന്നിട്ടുള്ളവയിൽ നിന്ന് തിരഞ്ഞെടുക്കുക.




Options :  
 212807119149 3  
 212807119150 3  
 212807119151 3  
 212807119152 4

Question Number : 303 Question Id : 21280729755 Question Type : MCQ Option Shuffling : No Is Question Mandatory : No Calculator : None  
 Response Time : N.A Think Time : N.A Minimum Instruction Time : 0  
 Correct Marks : 5 Wrong Marks : 1

Question Key Details :

Key	Value
Comprehension	MCQ

ପ୍ରଦତ୍ତ ବିଚ୍ଛିନ୍ନମାନଙ୍କ ମଧ୍ୟରୁ ଯେଉଁ ଛବିଟି ଉପରୋକ୍ତ କୋଠମାନଙ୍କେ ଲାଗିବ ' ? ' ।



- (1)
- (2)
- (3)
- (4)

Options :

212807119149-1

212807119150-2

212807119151-3

212807119152-4

Question Number : 303 Question Id : 21280719788 Question Type : MCQ Option Shuffling : No Is Question Mandatory : No Calculator : None


Response Time : N.A Think Time : N.A Minimum Instruction Time : 0

Correct Marks : 5 Wrong Marks : 1

Question Key Details :

Key	Value
Complexion	MCQ

ਹੇਠਾਂ ਦਿੱਤੇ ਚਿੱਤਰਾਂ ਵਿੱਚੋਂ ਇਸ ਚਿੱਤਰ ਦਾ ਮੁਕਾਬਲਾ ਕਿਸ ਠਾਲ ਕੀਤਾ ਹੈ?



- (1)
- (2)
- (3)
- (4)

Options :

112207119149 1

212207119150 2

312207119151 3

412207119152 4

Question Number : 305 Question Id : 21220719786 Question Type : MCQ Option Shuffling : No Is Question Mandatory : No Calculator : None  
Response Time : N.A Think Time : N.A Minimum Instruction Time : 0


Correct Marks : 5 Wrong Marks : 1

Question Key Details :


Key	Value
Comprehension	300

கொடுக்கப்பட்ட விரும்பங்களில் எந்த புள்ளிவிவரம் இருக்கும்.

?க்கு மாற்றாக



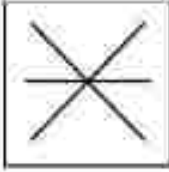
(1)



(2)



(3)



(4)



Options :

- 212507119149-1  
 212507119150-2  
 212507119151-3  
 212507119152-4


Question Number : 303 Question Id : 21250719735 Question Type : MCQ Option Shuffling : No Is Question Mandatory : No Calculator : None  
 Response Time : N.A Think Time : N.A Minimum Instruction Time : 0

Correct Marks : 5 Wrong Marks : 1

Question Key Details :

Key	Value
Comprehension	MCQ

ఇవ్వబడిన ఎంపికల్లో ఏ చిత్రం భర్త చేయగలదు ?



- (1)
- (2)
- (3)
- (4)

Options :

212807119149 1

212807119150 2

212807119151 3

212807119152 4

Question Number : 303 Question Id : 21280719788 Question Type : MCQ Option Shuffling : No Is Question Mandatory : No Calculator : None

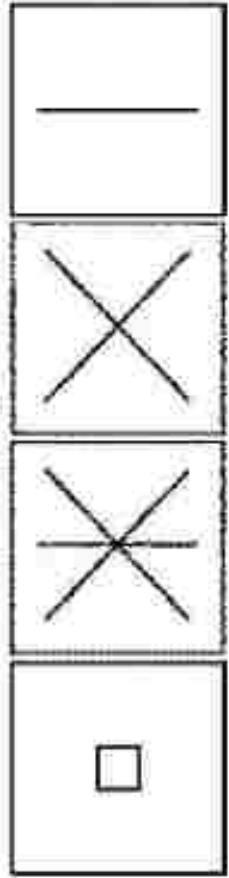

Response Time : N.A Think Time : N.A Minimum Instruction Time : 0

Correct Marks : 5 Wrong Marks : 1

Question Key Details :

Key	Value
Comprehension	MCQ

رے کے انتخاب میں سے کان بنی شکل جو لے گی ؟



Options :

212807119149 : 1

212807119150 : 1

212807119151 : 3

212807119153 : 4

Question Number : 354 Question Id : 21280719789 Question Type : MCQ Option Shuffling : No Is Question Mandatory : No Calculator : None  
Response Time : N.A Think Time : N.A Minimum Instruction Time : 0

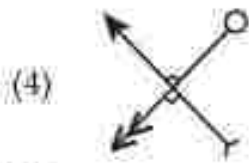

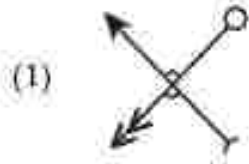
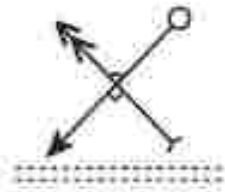
Correct Marks : 3 Wrong Marks : 1

Question Key Details :

Key	Value
-----	-------



Choose the correct water image of the figure .:



Options :

212807119153-1

212807119154-2

212807119155-3

212807119156-4

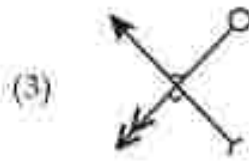
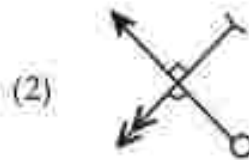
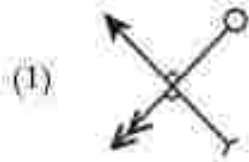
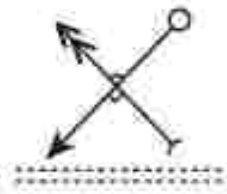
Question Number : 304 Question Id : 21280719789 Question Type : MCQ Option Shuffling : No Is Question Mandatory : No Calculator : None  
Response Time : N.A Think Time : N.A Minimum Instruction Time : 0

Correct Marks : 5 Wrong Marks : 1

Question Key Details :

Key	Value
Comprehension	MCQ

निम्नांकित आकृति के सही जल प्रतिबिम्ब का चयन कीजिए :



Options :

212807119153-1

212807119154-2

212807119155-3

212807119156-4


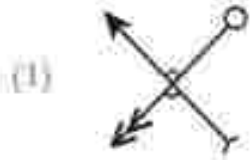
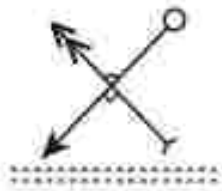
Question Number : 304 Question Id : 21280719789 Question Type : MCQ Option Shuffling : No Is Question Mandatory : No Calculator : None  
Response Time : N.A Think Time : N.A Minimum Instruction Time : 0

Correct Marks : 5 Wrong Marks : 1

Question Key Detail :

Key	Value
Comprehension	MCQ

তলৰ চিত্ৰটোৰ শুদ্ধ প্ৰতিবিস্তাৰ চিনাক্ত কৰা :

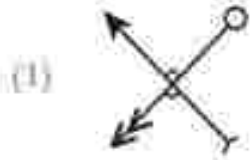
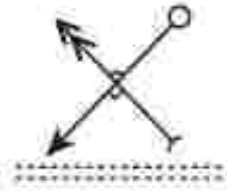


- Options :-  
212807119153-1  
212807119154-2  
212807119155-3  
212807119156-4

Question Number : 304 Question Id : 21280719789 Question Type : MCQ Option Shuffling : No Is Question Mandatory : No Calculator : None  
Response Time : N.A Think Time : N.A Minimum Instruction Time : 0  
Correct Marks : 5 Wrong Marks : 1  
Question Key Detail :

Key	Value
Comprehension	MCQ

প্রদত্ত চিত্রের সঠিক জলের প্রতিচ্ছবি নির্বাচন করো।

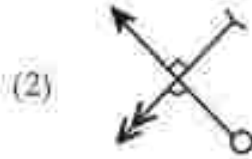
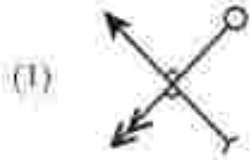
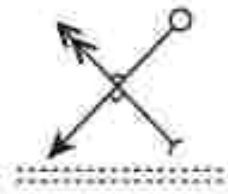


Options :-  
212807119153-1  
212807119154-2  
212807119155-3  
212807119156-4

Question Number : 304 Question Id : 21280719789 Question Type : MCQ Option Shuffling : No Is Question Mandatory : No Calculator : None  
Response Time : N.A Think Time : N.A Minimum Instruction Time : 0  
Correct Marks : 5 Wrong Marks : 1  
Question Key Detail :

Key	Value
Comprehension	MCQ

આપેલ આકૃતિની યોગ્ય પાણીની છબી (correct water image) પસંદ કરો.



- Options :-  
212807119153-1  
212807119154-2  
212807119155-3  
212807119156-4

Question Number : 304 Question Id : 21280719789 Question Type : MCQ Option Shuffling : No Is Question Mandatory : No Calculator : None  
Response Time : N.A Think Time : N.A Minimum Instruction Time : 0  
Correct Marks : 5 Wrong Marks : 1  
Question Key Detail :

Key	Value
Comprehension	MCQ

ಚಿತ್ರದ ಸರಿಯಾದ ಜಲವಿಂಬವನ್ನು ಆರಿಸಿ.



(1)



(2)



(3)



(4)



Options :

112807119153-1

112807119154-1

112807119155-3

112807119156-4

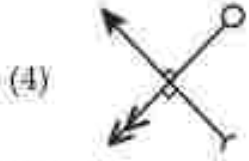
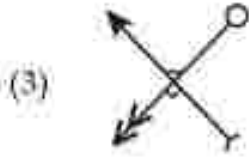
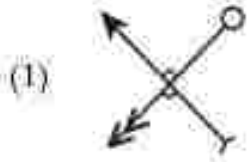
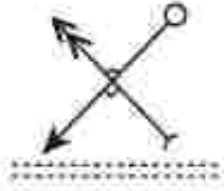
Question Number : 304 Question Id : 11280729789 Question Type : MCQ Option Shuffling : No Is Question Mandatory : No Calculator : None  
Response Time : N.A Think Time : N.A Minimum Instruction Time : 0

Correct Marks : 5 Wrong Marks : 1

Question Key Details :

Key	Value
Comprehension	SSCQ

दिलेल्या आकृतीचे पाण्यातील योग्य प्रतिबिंब निवडा.



Options :

212807119153-1

212807119154-2

212807119155-3

212807119156-4

Question Number : 304 Question Id : 21280719789 Question Type : MCQ Option Shuffling : No Is Question Mandatory : No Calculator : None

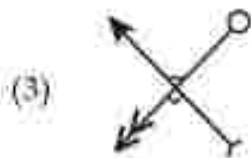
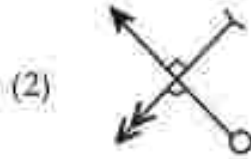
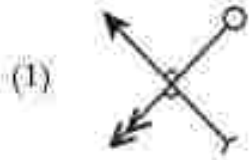
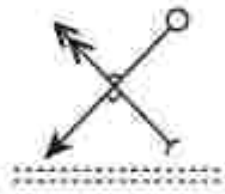
Response Time : N.A Think Time : N.A Minimum Instruction Time : 0

Correct Marks : 5 Wrong Marks : 1

Question Key Details :

Key	Value
Comprehension	MCQ

തന്നിട്ടുള്ള ചിത്രത്തിന്റെ ജലാപരിതലത്തിലെ പ്രതിബിംബം കണ്ടെത്തുക.



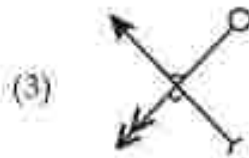
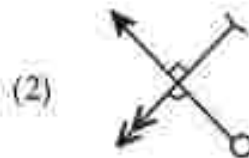
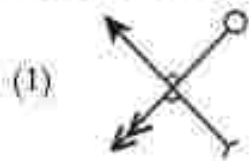
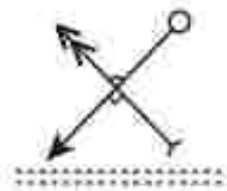
Options :  
212807119153-1  
212807119154-2  
212807119155-3  
212807119156-4

Question Number : 304 Question Id : 21280719789 Question Type : MCQ Option Shuffling : No Is Question Mandatory : No Calculator : None  
Response Time : N.A Think Time : N.A Minimum Instruction Time : 0  
Correct Marks : 5 Wrong Marks : 1  
Question Key Detail :

Key	Value
Comprehension	MCQ



ଛତ୍ରର ଧରିଲ୍ଲ ବର୍ତ୍ତଣ ପ୍ରତିକ୍ରିୟାଟି ଦାଃ ।



Options :

212807119153-1

212807119154-2

212807119155-3

212807119156-4

Question Number : 304 Question Id : 21280719789 Question Type : MCQ Option Shuffling : No Is Question Mandatory : No Calculator : None


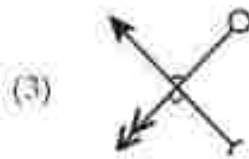
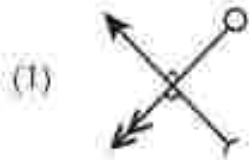
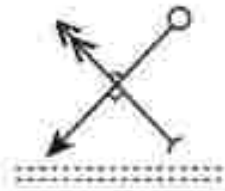
Response Time : N.A Think Time : N.A Minimum Instruction Time : 0

Correct Marks : 5 Wrong Marks : 1

Question Key Details :

Key	Value
Comprehension	MCQ

ਉਹ ਚਿੱਤਰ ਲੱਭੋ ਜੋ ਸਹੀ ਖਾਣੀ ਦੀ ਤਸਵੀਰ ਪੇਸ਼ ਕਰਦਾ ਹੈ ।



Options :

212807119153-1

212807119154-2

212807119155-3

212807119156-4

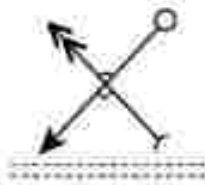
Question Number : J04 Question Id : 21280719789 Question Type : MCQ Option Shuffling : No Is Question Mandatory : No Calculator : None  
Response Time : N.A Think Time : N.A Minimum Instruction Time : 0

Correct Marks : 5 Wrong Marks : 1

Question Key Details :

Key	Value
Comprehension	MCQ

பு.த்தின் சரியான நீர் பு.த்தைத் தேர்ந்தெடுக்கவும்.



(1)



(2)



(3)



(4)



Options :

212807119153-1

212807119154-1

212807119153-3

212807119156-4


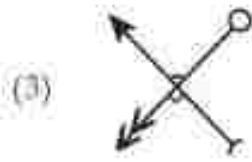
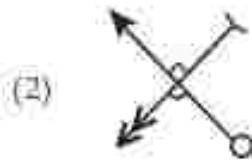
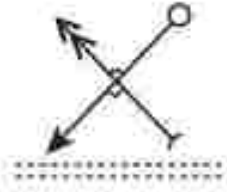
Question Number : 304 Question Id : 21280719789 Question Type : MCQ Option Shuffling : No Is Question Mandatory : No Calculator : None  
Response Time : N.A Think Time : N.A Minimum Instruction Time : 0

Correct Marks : 5 Wrong Marks : 1

Question Key Details :

Key	Value
Comprehension	MCQ

పదేన నీటి బింజుస్సె ఎస్సుకొండి.



Options :

212807119153 1

212807119154 2

212807119155 3

212807119156 4


Question Number : 304 Question Id : 21280719789 Question Type : MCQ Option Shuffling : No Is Question Mandatory : No Calculator : None  
Response Time : N.A Think Time : N.A Minimum Instruction Time : 0

Correct Marks : 5 Wrong Marks : 1

Question Key Details :

Key	Value
Comprehension	MCQ

شکل کی درست آبی تصویر کو چنیں :



(1)



(2)



(3)



(4)

Options :

212807119153 1

212807119154 2

212807119155 3

212807119156 4

Question Number : 305 Question Id : 21280729790 Question Type : MCQ Option Shuffling : No Is Question Mandatory : No Calculator : None : Response Time : N.A Think Time : N.A Minimum Instruction Time : 0

Correct Marks : 5 Wrong Marks : 1

Question Key Details :

Key	Value
Comprehension	MCQ

Choose the word which is different from the sequence :

EH13, PR34, RU39, KN25

- (1) EH13
- (2) PR34
- (3) RU39
- (4) KN25

Options :

212807119157-1

212807119158-2

212807119159-3

212807119160-4

Question Number : 105 Question Id : 21280719790 Question Type : MCQ Option Shuffling : No Is Question Mandatory : No Calculator : None  
Response Time : N.A Think Time : N.A Minimum Instruction Time : 0

Correct Marks : 5 Wrong Marks : 1

Question Key Details :

Key	Value
Comprehension	MCQ

उस शब्द का चयन कीजिए, जो अनुक्रम EH13, PR34, RU39, KN25 से भिन्न है ?

- (1) EH13
- (2) PR34
- (3) RU39
- (4) KN25

Options :

212807119157-1

212807119158-2

212807119159-3

212807119160-4

Question Number : 305 Question Id : 21280719790 Question Type : MCQ Option Shuffling : No Is Question Mandatory : No Calculator : None  
Response Time : N.A Think Time : N.A Minimum Instruction Time : 0

Correct Marks : 5 Wrong Marks : 1

Question Key Details :

Key	Value
Comprehension	MCQ

उन शब्दों में से भिन्न शब्द चुनिए ?

EH13, PR34, RU39, KN25

- (1) EH13
- (2) PR34
- (3) RU39
- (4) KN25

Options :

212807119157-1

212807119158-2

212807119159-3

212807119160-4

Question Number : 305 Question Id : 21280719790 Question Type : MCQ Option Shuffling : No Is Question Mandatory : No Calculator : None  
Response Time : N.A Think Time : N.A Minimum Instruction Time : 0

Correct Marks : 5 Wrong Marks : 1

Question Key Details :

Key	Value
-----	-------

ಒಮ್ಮೆ ಪ್ರಸಿದ್ಧ ಅಜ್ಞಾನಿ ಶಬ್ದವನ್ನು ನಿರ್ವಾಚನ ಮಾಡಿದರು ।

EH13, PR34, RU39, KN25

- (1) EH13
- (2) PR34
- (3) RU39
- (4) KN25

Options :

212807119157 1

212807119158 2

212807119159 3

212807119160 4

Question Number : 305 Question Id : 21280719790 Question Type : MCQ Option Shuffling : No Is Question Mandatory : No Calculator : None  
Response Time : N.A Think Time : N.A Minimum Instruction Time : 0

Correct Marks : 5 Wrong Marks : 1

Question Key Details :

Key	Value
Comprehension	MCQ

ಅನುಕ್ರಮ ಮಾತಿನಿ ಬುದ್ಧಿ ಶಾಖೆ ಪಸೆಡೆ ಕರೆ.

EH13, PR34, RU39, KN25

- (1) EH13
- (2) PR34
- (3) RU39
- (4) KN25

Options :

212807119157 1

212807119158 2

212807119159 3

212807119160 4

Question Number : 305 Question Id : 21280719790 Question Type : MCQ Option Shuffling : No Is Question Mandatory : No Calculator : None  
Response Time : N.A Think Time : N.A Minimum Instruction Time : 0

Correct Marks : 5 Wrong Marks : 1

Question Key Details :

Key	Value
Comprehension	MCQ

ಅನುಕ್ರಮಣಿಕೆಯಲ್ಲಿ ವ್ಯಕ್ತನಾದವನು ಪದವನ್ನು ಆರಿಸಿ.

EH13, PR34, RU39, KN25

- (1) EH13
- (2) PR34
- (3) RU39
- (4) KN25

Options :

212807119157 1

212807119158 2

212807119159 3

212807119160 4

Question Number : 305 Question Id : 21280719790 Question Type : MCQ Option Shuffling : No Is Question Mandatory : No Calculator : None  
Response Time : N.A Think Time : N.A Minimum Instruction Time : 0

Correct Marks : 5 Wrong Marks : 1

Question Key Details :

Key	Value
Comprehension	MCQ

साखळीत न असणारा पर्याय निवडा :

EH13, PR34, RU39, KN25

- (1) EH13
- (2) PR34
- (3) RU39
- (4) KN25

Options :

212807119157 1  
212807119158 2  
212807119159 3  
212807119160 4

Question Number : 305 Question Id : 21280729790 Question Type : MCQ Option Shuffling : No Is Question Mandatory : No Calculator : None  
Response Time : N.A Think Time : N.A Minimum Instruction Time : 0

Correct Marks : 5 Wrong Marks : 1

Question Key Details :

Key	Value
Comprehension	MCQ

കുട്ടുണിയിൽ വ്യത്യസ്തമായത് കണ്ടെത്തുക.

EH13, PR34, RU39, KN25

- (1) EH13
- (2) PR34
- (3) RU39
- (4) KN25

Options :

212807119157 1  
212807119158 2  
212807119159 3  
212807119160 4

Question Number : 305 Question Id : 21280729790 Question Type : MCQ Option Shuffling : No Is Question Mandatory : No Calculator : None  
Response Time : N.A Think Time : N.A Minimum Instruction Time : 0

Correct Marks : 5 Wrong Marks : 1

Question Key Details :

Key	Value
Comprehension	MCQ

ଭ୍ରମରେ ଭିନ୍ନ ଉତ୍ତର ଦାଉ :

EH13, PR34, RU39, KN25

- (1) EH13
- (2) PR34
- (3) RU39
- (4) KN25

Options :

212807119157 1  
212807119158 2  
212807119159 3  
212807119160 4



Question Number : 305 Question Id : 212807129790 Question Type : MCQ Option Shuffling : No Is Question Mandatory : No Calculator : None  
Response Time : N.A Think Time : N.A Minimum Instruction Time : 0

Correct Marks : 5 Wrong Marks : 1

Question Key Details :

Key	Value
Comprehension	MCQ

ਇਸ ਲਈ ਵਿਚ ਕਿਹੜਾ ਸਬਦ ਅਲਗ ਹੈ ਉਸਨੂੰ ਲੱਭੋ :

EH13, PR34, RU39, KN25

- (1) EH13
- (2) PR34
- (3) RU39
- (4) KN25

Options :

212807119157-1

212807119158-1

212807119159-3

212807119160-4

Question Number : 305 Question Id : 212807129790 Question Type : MCQ Option Shuffling : No Is Question Mandatory : No Calculator : None  
Response Time : N.A Think Time : N.A Minimum Instruction Time : 0

Correct Marks : 5 Wrong Marks : 1

Question Key Details :

Key	Value
Comprehension	MCQ

வரிசையிலிருந்து வேறுபட்ட சொல்லைத் தேர்ந்தெடுக்கவும்.

EH13, PR34, RU39, KN25

- (1) EH13
- (2) PR34
- (3) RU39
- (4) KN25

Options :

212807119157-1

212807119158-1

212807119159-3

212807119160-4

Question Number : 305 Question Id : 212807129790 Question Type : MCQ Option Shuffling : No Is Question Mandatory : No Calculator : None  
Response Time : N.A Think Time : N.A Minimum Instruction Time : 0

Correct Marks : 5 Wrong Marks : 1

Question Key Details :

Key	Value
Comprehension	MCQ

క్రీడిట్ ఫిన్యంగా ఉన్న పదాన్ని గుర్తించండి.

EH13, PR34, RU39, KN25

- (1) EH13
- (2) PR34
- (3) RU39
- (4) KN25

Options :

212807119157-1

212807119158-2

212807119159-3

212807119160-4

Question Number : 305 Question Id : 21280729790 Question Type : MCQ Option Shuffling : No Is Question Mandatory : No Calculator : None  
Response Time : N.A Think Time : N.A Minimum Instruction Time : 0

Correct Marks : 5 Wrong Marks : 1

Question Key Details :

Key	Value
Comprehension	MCQ

اس الفاظ کو جنہیں جو سلسلہ سے الگ ہے ؟

EH13, PR34, RU39, KN25

- EH13 (1)
- PR34 (2)
- RU39 (3)
- KN25 (4)

Options :

212807119157-1

212807119158-2

212807119159-3

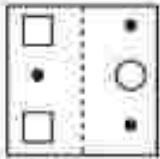
212807119160-4

Question Number : 306 Question Id : 21280729791 Question Type : MCQ Option Shuffling : No Is Question Mandatory : No Calculator : None  
Response Time : N.A Think Time : N.A Minimum Instruction Time : 0

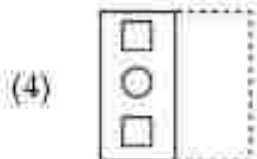
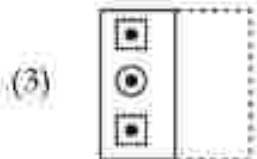
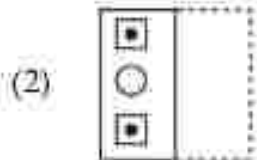
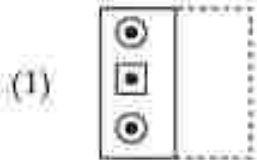
Correct Marks : 5 Wrong Marks : 1

Question Key Details :

Key	Value
Comprehension	MCQ



Which among the following figure would form after folding along the dotted line ?



Options :

112807119161 1

212507119162 1

212807119163 3

212807119164 4

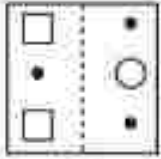
Question Number : 306 Question Id : 21280729791 Question Type : MCQ Option Skuffling : No Is Question Mandatory : No Calculator : None

Response Time : N.A Think Time : N.A Minimum Instruction Time : 0

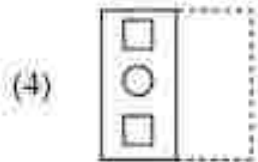
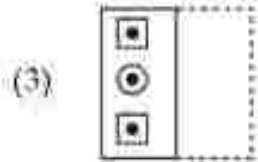
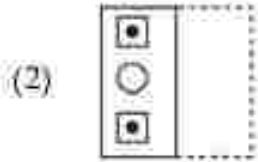
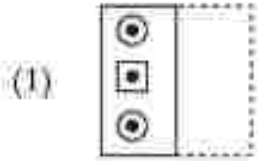
Correct Marks : 5 Wrong Marks : 1

Question Key Details :

Key	Value
Comprehension	MCQ



निम्नलिखित में से कौन-सी आकृति बिंदुतरेखा के अनुदिश मोड़ने पर बनेगी ?



Options :

212507119161-1

212507119162-2

212507119163-3

212507119164-4

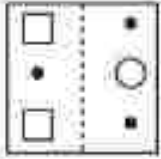
Question Number : 306 Question Id : 212507119161 Question Type : MCQ Option Shuffling : No Is Question Mandatory : No Calculator : None

Response Time : N.A Think Time : N.A Minimum Instruction Time : 0

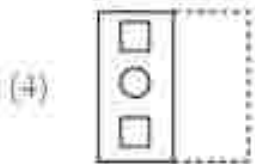
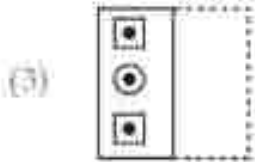
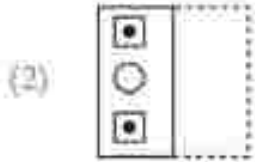
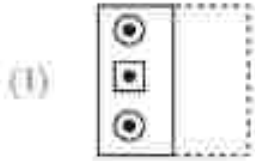
Correct Marks : 5 Wrong Marks : 1

Question Key Details :

Key	Value
Comprehension	MCQ



বিন্দু বোঝার ভাঁজত ভাঁজ কবিলে তলর কোনটো চিত্র উপর হ'খ চিনাক কবা।



Options :

212507119161-1

212507119162-2

212507119163-3

212507119164-4

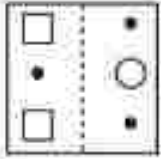
Question Number : 306 Question Id : 21250719791 Question Type : MCQ Option Shuffling : No Is Question Mandatory : No Calculator : None

Response Time : N.A Think Time : N.A Minimum Instruction Time : 0

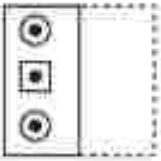

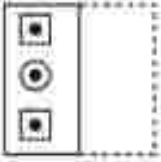
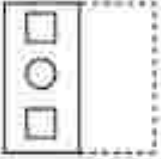
Correct Marks : 5 Wrong Marks : 1

Question Key Details :

Key	Value
Comprehension	MCQ



বিন্দুযুক্ত রেখা প্রকারে প্রদত্ত চিত্রটিকে ভাঙ করলে নিম্নের কোন চিত্রটি পাওয়া যাবে ?

- (1) 
- (2) 
- (3) 
- (4) 

Options :

212507119161-1

212507119162-2

212507119163-3

212507119164-4

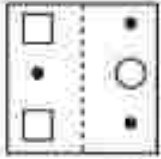
Question Number : 306 Question Id : 21250719791 Question Type : MCQ Option Shuffling : No Is Question Mandatory : No Calculator : None

Response Time : N.A Think Time : N.A Minimum Instruction Time : 0

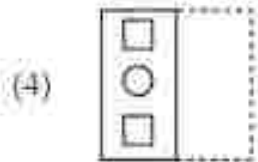
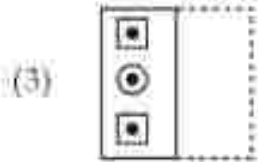
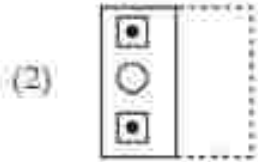
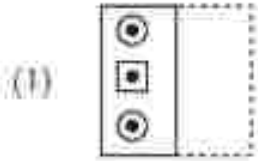
Correct Marks : 5 Wrong Marks : 1

Question Key Details :

Key	Value
Comprehension	MCQ



टपकायाणी रेखा (डॉटेड लाईन) साथे वाज्या (डोल्ड) इयां पछी नीचेना आपेला पेडी इई आकृति बनरो?



Options :

212507119161 1

212507119162 2

212507119163 3

212507119164 4

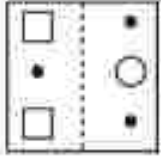
Question Number : 306 Question Id : 21250719791 Question Type : MCQ Option Shuffling : No Is Question Mandatory : No Calculator : None

Response Time : N.A Think Time : N.A Minimum Instruction Time : 0

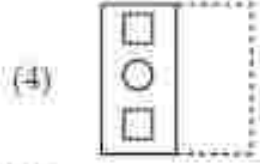
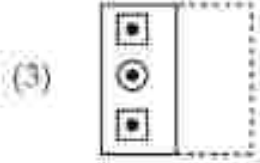
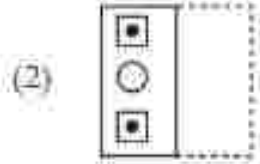
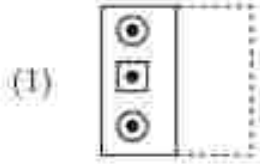
Correct Marks : 5 Wrong Marks : 1

Question Key Details :

Key	Value
Comprehension	MCQ



ಈ ಕೆಳಗಿನವುಗಳಲ್ಲಿ ಯಾವುದೊಂದು ಚಿತ್ರವು ಚುಕ್ಕೆ ಫಲಿತ ರೇಖೆಯ ಮೇಲೆ ಮೂಡಿಸಿದಾದ ರಚನೆಯಾಗುತ್ತದೆ ?



Options :

212807119161 1

212807119162 2

212807119163 3

212807119164 4

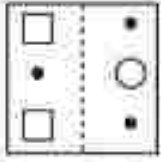
Question Number : 306 Question Id : 21280719791 Question Type : MCQ Option Shuffling : No Is Question Mandatory : No Calculator : None  
Response Time : N.A Think Time : N.A Minimum Instruction Time : 0

Correct Marks : 5 Wrong Marks : 1

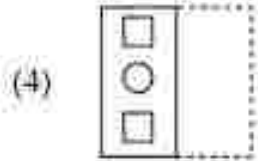
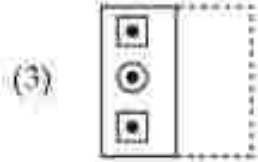
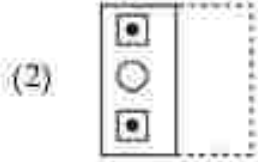
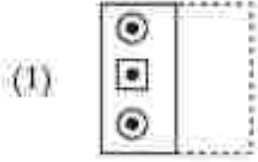
Question Key Details :

Key	Value
Comprehension	MCQ





टिपक्यांच्या रेधेजवळ दुमदल्यास पुढीलपैकी कोणती आकृती तयार होईल?



Options :

212507119161-1

212507119162-2

212507119163-3

212507119164-4

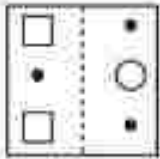
Question Number : 306 Question Id : 21250719791 Question Type : MCQ Option Shuffling : No Is Question Mandatory : No Calculator : None

Response Time : N.A Think Time : N.A Minimum Instruction Time : 0

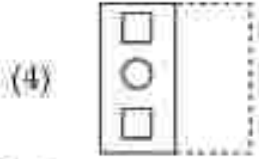
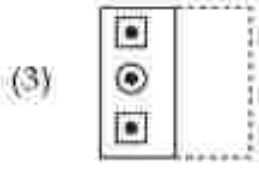
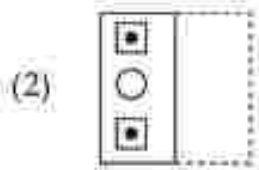
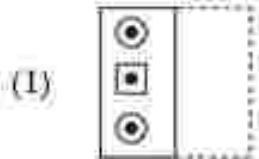
Correct Marks : 5 Wrong Marks : 1

Question Key Details :

Key	Value
Comprehension	MCQ



തന്നിട്ടുള്ള ചിത്രം കൃത്യകൾ ഇട്ട ഭാഗത്ത് കൂടി മടക്കിയാൽ ലഭിക്കുന്ന ചിത്രം താഴെ തന്നിട്ടുള്ളതിൽ ഏതായിരിക്കും ?



Options :

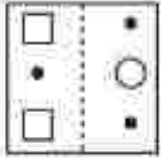
- 212807119161 1
- 212807119162 2
- 212807119163 3
- 212807119164 4

Question Number : 306 Question Id : 21280719791 Question Type : MCQ Option Shuffling : No Is Question Mandatory : No Calculator : None  
 Response Time : N.A Think Time : N.A Minimum Instruction Time : 0

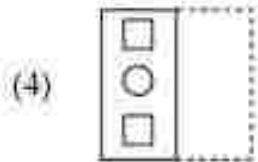
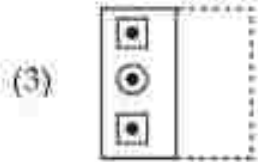
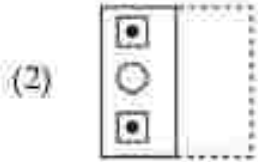
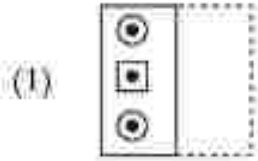
Correct Marks : 5 Wrong Marks : 1

Question Key Details :

Key	Value
Comprehension	MCQ



ବିରୁଦ୍ଧାଗମ୍ଭୂତିକୁ ଗାଢ଼ିକେତେକ ନିମ୍ନୋକ୍ତ ଲେଖି ଛବିଟି ସୃଷ୍ଟି ହୋଇ ?



Options :

212507119161-1

212507119162-2

212507119163-3

212507119164-4

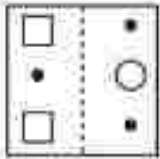
Question Number : 306 Question Id : 21250719791 Question Type : MCQ Option Shuffling : No Is Question Mandatory : No Calculator : None

Response Time : N.A Think Time : N.A Minimum Instruction Time : 0

Correct Marks : 5 Wrong Marks : 1

Question Key Details :

Key	Value
Comprehension	MCQ



ਬਿੱਚੀ ਵਾਲੀ ਲਾਈਨ ਨੂੰ ਫੇਲਡ ਕਰਨ ਕੇ ਖਾਸ ਹੇਠਾਂ ਦਿੱਤੇ ਚਿੱਤਰ ਵਿੱਚੋਂ ਕਿਹੜਾ ਹੋਵੇਗਾ?

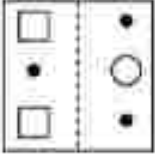
- (1)
- (2)
- (3)
- (4)

Options :

- 212507119161:1  
 212507119162:3  
 212507119163:3  
 212507119164:4

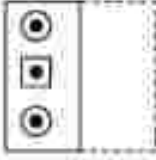
Question Number : 306 Question Id : 212507119161 Question Type : MCQ Option Shuffling : No Is Question Mandatory : No Calculator : None  
 Response Time : N.A Think Time : N.A Minimum Instruction Time : 0  
 Correct Marks : 5 Wrong Marks : 1  
 Question Key Details :

Key	Value
Comprehension	MCQ

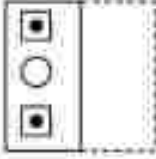


புள்ளிக் கோட்டில் மடிக்க பிறகு பின்வருவனவற்றில் எது உருவாகும்?

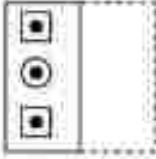
(1)



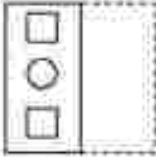
(2)



(3)



(4)



Options :


- 212807119161-1
- 212807119162-2
- 212807119163-3
- 212807119164-4

Question Number : 356 Question Id : 21280719791 Question Type : MCQ Option Shuffling : No Is Question Mandatory : No Calculator : None Response Time : N.A Think Time : N.A Minimum Instruction Time : 0

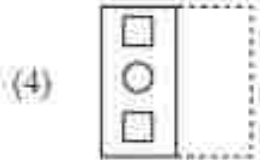
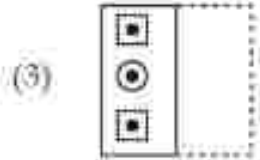
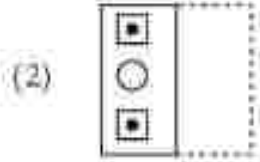
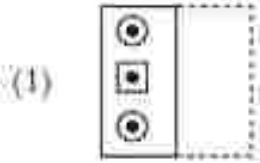
Correct Marks : 5 Wrong Marks : 1

Question Key Details :

Key	Value
Comprehension	MCQ



చుక్కల శేఖ వెంబడి మడత పెట్టగా కింది వాటిలో ఏ చిత్రం ఏర్పడుతుంది ?



Options :

112207119161 1

112207119162 2

112207119163 3

112207119164 4

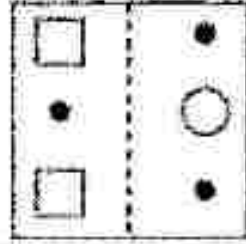
Question Number : 306 Question Id : 21250729791 Question Type : MCQ Option Skuffing : No Is Question Mandatory : No Calculator : None  
Response Time : N.A Think Time : N.A Minimum Instruction Time : 0

Correct Marks : 5 Wrong Marks : 1

Question Key Details :

Key	Value
Comprehension	MCQ

منقولہ ایکسپرٹ کرنے کے بعد مندرجہ ذیل میں سے کون سی شکل بنے گی ؟



- (1)
- (2)
- (3)
- (4)

Options :

212807119161-1

212807119162-2

212807119163-3

212807119164-4

Question Number : 307 Question Id : 21280729792 Question Type : MCQ Option Shuffling : No Is Question Mandatory : No Calculator : None

Response Time : N.A Think Time : N.A Minimum Instruction Time : 0

Correct Marks : 5 Wrong Marks : 1

Question Key Details :

Key	Value
Comprehension	MCQ

	9
4	12

	12
8	32

	9
9	?

What is the missing term ?

- (1) 24  
 (2) 27  
 (3) 64  
 (4) 17

Options :

- 212807119165:1  
 212807119166:2  
 212807119167:3  
 212807119168:4

Question Number : 307 Question Id : 21280729792 Question Type : MCQ Option Shuffling : No Is Question Mandatory : No Calculator : None  
 Response Time : N.A Think Time : N.A Minimum Instruction Time : 0

Correct Marks : 5 Wrong Marks : 1

Question Key Details :

Key	Value
Comprehension	MCQ

	9
4	12

	12
8	32

	9
9	?

उपर्युक्त में अविद्यमान पद क्या है ?

- (1) 24  
 (2) 27  
 (3) 64  
 (4) 17

Options :

- 212807119165:1  
 212807119166:2  
 212807119167:3  
 212807119168:4

Question Number : 307 Question Id : 21280729792 Question Type : MCQ Option Shuffling : No Is Question Mandatory : No Calculator : None  
 Response Time : N.A Think Time : N.A Minimum Instruction Time : 0

Correct Marks : 5 Wrong Marks : 1

Question Key Details :

Key	Value
Comprehension	MCQ

	9
4	12

	12
8	32

	9
9	?

নথকা শব্দটি সংখ্যাটো উলিওৱা :

- (1) 24  
 (2) 27  
 (3) 64  
 (4) 17

Options :

- 212807119165:1



212507119165.1  
212507119167.3  
212507119165.4

Question Number : 307 Question Id : 21250729792 Question Type : MCQ Option Shuffling : No Is Question Mandatory : No Calculator : None  
Response Time : N.A Think Time : N.A Minimum Instruction Time : 0

Correct Marks : 5 Wrong Marks : 1

Question Key Details :

Key	Value
Comprehension	MCQ

	9		12		9
4	12	8	32	9	?

অনুপস্থিত পদটি কী হবে ?

- (1) 24  
(2) 27  
(3) 64  
(4) 17

Options :

212507119165.1  
212507119165.2  
212507119167.3  
212507119168.4

Question Number : 307 Question Id : 21250729792 Question Type : MCQ Option Shuffling : No Is Question Mandatory : No Calculator : None  
Response Time : N.A Think Time : N.A Minimum Instruction Time : 0

Correct Marks : 5 Wrong Marks : 1

Question Key Details :

Key	Value
Comprehension	MCQ

	9		12		9
4	12	8	32	9	?

পূর্তী উন্নত কী হবে?

- (1) 24  
(2) 27  
(3) 64  
(4) 17

Options :

212507119165.1  
212507119166.2  
212507119167.3  
212507119168.4

Question Number : 307 Question Id : 21250729792 Question Type : MCQ Option Shuffling : No Is Question Mandatory : No Calculator : None  
Response Time : N.A Think Time : N.A Minimum Instruction Time : 0

Correct Marks : 5 Wrong Marks : 1

Question Key Details :

Key	Value
Comprehension	MCQ

	9		12		9
4	12	8	32	9	?

ಕಣ್ಣಿಯಾದ ಪದವೇನು ?

- (1) 24  
 (2) 27  
 (3) 64  
 (4) 17

Options :

- 212807119165.1  
 212807119166.1  
 212807119167.3  
 212807119165.4

Question Number : 307 Question Id : 21280729792 Question Type : MCQ Option Shuffling : No Is Question Mandatory : No Calculator : None  
 Response Time : N.A Think Time : N.A Minimum Instruction Time : 0

Correct Marks : 5 Wrong Marks : 1

Question Key Details :

Key	Value
Comprehension	MCQ

	9		12		9
4	12	8	32	9	?

प्रश्नचिन्हाच्या जागी कोणती संख्या येईल ?

- (1) 24  
 (2) 27  
 (3) 64  
 (4) 17

Options :

- 212807119165.1  
 212807119166.1  
 212807119167.3  
 212807119165.4

Question Number : 307 Question Id : 21280729792 Question Type : MCQ Option Shuffling : No Is Question Mandatory : No Calculator : None  
 Response Time : N.A Think Time : N.A Minimum Instruction Time : 0

Correct Marks : 5 Wrong Marks : 1

Question Key Details :

Key	Value
Comprehension	MCQ

	9		12		9
4	12	8	32	9	?

വിളിച്ചു പറയാൻ പറ്റാത്ത പൂരിപ്പിക്കുക.

- (1) 24  
 (2) 27  
 (3) 64  
 (4) 17

Options :

- 212807119165.1

212507119165.1  
212507119167.3  
212507119165.4

Question Number : 307 Question Id : 21250729792 Question Type : MCQ Option Shuffling : No Is Question Mandatory : No Calculator : None  
Response Time : N.A Think Time : N.A Minimum Instruction Time : 0

Correct Marks : 5 Wrong Marks : 1

Question Key Details :

Key	Value
Comprehension	MCQ

	9		12		9
4	12	8	32	9	?

ବେଗର ଏକ ବର୍ਗ-ଗੁଣିତ-ସଂଖ୍ୟା ?

- (1) 24
- (2) 27
- (3) 64
- (4) 17

Options :

212507119165.1  
212507119165.3  
212507119167.3  
212507119168.4

Question Number : 307 Question Id : 21250729792 Question Type : MCQ Option Shuffling : No Is Question Mandatory : No Calculator : None  
Response Time : N.A Think Time : N.A Minimum Instruction Time : 0

Correct Marks : 5 Wrong Marks : 1

Question Key Details :

Key	Value
Comprehension	MCQ

	9		12		9
4	12	8	32	9	?

ਇਸ ਵਿਚ ਗୁଣିତ-ସଂଖ୍ୟା କିਹଣି ਹੈ ?

- (1) 24
- (2) 27
- (3) 64
- (4) 17

Options :

212507119165.1  
212507119165.3  
212507119167.3  
212507119168.4

Question Number : 307 Question Id : 21250729792 Question Type : MCQ Option Shuffling : No Is Question Mandatory : No Calculator : None  
Response Time : N.A Think Time : N.A Minimum Instruction Time : 0

Correct Marks : 5 Wrong Marks : 1

Question Key Details :

Key	Value
Comprehension	MCQ

	9
4	12

	12
8	32

	9
9	?

காணாமல் போன சொல் என்ன?

- (1) 24  
(2) 27  
(3) 64  
(4) 17

Options :

212507119165-1

212507119165-2

212507119167-3

212507119165-4

Question Number : 307 Question Id : 21250719792 Question Type : MCQ Option Shuffling : No Is Question Mandatory : No Calculator : None  
Response Time : N.A Think Time : N.A Minimum Instruction Time : 0

Correct Marks : 5 Wrong Marks : 1

Question Key Details :

Key	Value
Comprehension	MCQ

	9
4	12

	12
8	32

	9
9	?

கீழ்க்கண்ட விதி ?

- (1) 24  
(2) 27  
(3) 64  
(4) 17

Options :

212507119165-1

212507119165-2

212507119167-3

212507119165-4

Question Number : 307 Question Id : 21250719792 Question Type : MCQ Option Shuffling : No Is Question Mandatory : No Calculator : None  
Response Time : N.A Think Time : N.A Minimum Instruction Time : 0

Correct Marks : 5 Wrong Marks : 1

Question Key Details :

Key	Value
Comprehension	MCQ

4	9
12	18

8	12
32	48

گمشدہ نمبر کیا ہے ؟

9	?
24	36

24 (1)

27 (2)

64 (3)

17 (4)

Options :

212807119165.1

212807119166.2

212807119167.3

212807119168.4

Question Number : 308 Question Id : 21280729753 Question Type : MCQ Option Shuffling : No Is Question Mandatory : No Calculator : None Response Time : N.A Think Time : N.A Minimum Instruction Time : 0

Correct Marks : 5 Wrong Marks : 1

Question Key Details :

Key	Value
Comprehension	MCQ

What is the missing term ?

3, 8, 15, 24, ?, 48.

(1) 30

(2) 33

(3) 35

(4) 41

Options :

212807119169.1

212807119170.2

212807119171.3

212807119172.4

Question Number : 308 Question Id : 21280729753 Question Type : MCQ Option Shuffling : No Is Question Mandatory : No Calculator : None Response Time : N.A Think Time : N.A Minimum Instruction Time : 0

Correct Marks : 5 Wrong Marks : 1

Question Key Details :

Key	Value
Comprehension	MCQ

निम्नलिखित में अविद्यमान पद क्या है ?

3, 8, 15, 24, ?, 48.

(1) 30

(2) 33

(3) 35

(4) 41

Options :

212807119169.1

212807119170.2

212807119171.3

212807119172.4

Question Number : 395 Question Id : 21280719793 Question Type : MCQ Option Shuffling : No Is Question Mandatory : No Calculator : None

Response Time : N.A Think Time : N.A Minimum Instruction Time : 0

Correct Marks : 5 Wrong Marks : 1

Question Key Details :

Key	Value
Comprehension	MCQ

হেবডি বোঝা সংখ্যাটো কি ?

3, 8, 15, 24, ?, 48.

- (1) 30
- (2) 33
- (3) 35
- (4) 41

Options :

212807119169 : 1

212807119170 : 2

212807119171 : 3

212807119172 : 4

Question Number : 398 Question Id : 21280719793 Question Type : MCQ Option Shuffling : No Is Question Mandatory : No Calculator : None

Response Time : N.A Think Time : N.A Minimum Instruction Time : 0

Correct Marks : 5 Wrong Marks : 1

Question Key Details :

Key	Value
Comprehension	MCQ

অনুপস্থিত পদটি কী হবে ?

3, 8, 15, 24, ?, 48.

- (1) 30
- (2) 33
- (3) 35
- (4) 41

Options :

212807119169 : 1

212807119170 : 2

212807119171 : 3

212807119172 : 4

Question Number : 398 Question Id : 21280719793 Question Type : MCQ Option Shuffling : No Is Question Mandatory : No Calculator : None

Response Time : N.A Think Time : N.A Minimum Instruction Time : 0

Correct Marks : 5 Wrong Marks : 1

Question Key Details :

Key	Value
Comprehension	MCQ

পূর্তী হিমত হুঁ ঐ?

3, 8, 15, 24, ?, 48.

- (1) 30
- (2) 33
- (3) 35
- (4) 41

Options :

212807119169 : 1

212507119170 1  
212507119171 3  
212507119172 4

Question Number : 308 Question Id : 21250729793 Question Type : MCQ Option Shuffling : No Is Question Mandatory : No Calculator : None  
Response Time : N.A Think Time : N.A Minimum Instruction Time : 0

Correct Marks : 5 Wrong Marks : 1

Question Key Details :

Key	Value
Comprehension	MCQ

ಕನ್ನಡಿಯಾದ ಪದವೇನು ?

3, 8, 15, 24, \_\_?\_\_, 48.

- (1) 30
- (2) 33
- (3) 35
- (4) 41

Options :

212507119169 1  
212507119170 2  
212507119171 3  
212507119172 4

Question Number : 308 Question Id : 21250729793 Question Type : MCQ Option Shuffling : No Is Question Mandatory : No Calculator : None  
Response Time : N.A Think Time : N.A Minimum Instruction Time : 0

Correct Marks : 5 Wrong Marks : 1

Question Key Details :

Key	Value
Comprehension	MCQ

प्रश्नचिन्हाच्या जागी कोणती संख्या येईल ?

3, 8, 15, 24, \_\_?\_\_, 48.

- (1) 30
- (2) 33
- (3) 35
- (4) 41

Options :

212507119169 1  
212507119170 2  
212507119171 3  
212507119172 4

Question Number : 308 Question Id : 21250729793 Question Type : MCQ Option Shuffling : No Is Question Mandatory : No Calculator : None  
Response Time : N.A Think Time : N.A Minimum Instruction Time : 0

Correct Marks : 5 Wrong Marks : 1

Question Key Details :

Key	Value
Comprehension	MCQ

විද්‍යු පෙරළ පැහැය ?

3, 8, 15, 24, \_\_?\_\_, 48.

- (1) 30
- (2) 33
- (3) 35
- (4) 41

Options :

212807119169-1  
212807119170-2  
212807119171-3  
212807119172-4

Question Number : 305 Question Id : 21280719793 Question Type : MCQ Option Shuffling : No Is Question Mandatory : No Calculator : None  
Response Time : N.A Think Time : N.A Minimum Instruction Time : 0

Correct Marks : 5 Wrong Marks : 1

Question Key Details :

Key	Value
Comprehension	MCQ

ଉତ୍ତරාධිපති වාණිජ බැංකු ?

3, 8, 15, 24, \_\_?\_\_, 48.

- (1) 30
- (2) 33
- (3) 35
- (4) 41

Options :

212807119169-1  
212807119170-2  
212807119171-3  
212807119172-4

Question Number : 308 Question Id : 21280719793 Question Type : MCQ Option Shuffling : No Is Question Mandatory : No Calculator : None  
Response Time : N.A Think Time : N.A Minimum Instruction Time : 0

Correct Marks : 5 Wrong Marks : 1

Question Key Details :

Key	Value
Comprehension	MCQ

ਇਸ ਵਿਚ ਕੁਮੀ ਹੋਈ ਮਿਆਦ ਕਿਹੜੀ ਹੈ?

3, 8, 15, 24, \_\_?\_\_, 48.

- (1) 30
- (2) 33
- (3) 35
- (4) 41

Options :

212807119169-1  
212807119170-2  
212807119171-3  
212807119172-4

Question Number : 308 Question Id : 21280719793 Question Type : MCQ Option Shuffling : No Is Question Mandatory : No Calculator : None  
Response Time : N.A Think Time : N.A Minimum Instruction Time : 0

Correct Marks : 5 Wrong Marks : 1



Question Key Details :

Key	Value
Comprehension	MCQ

விடுபட்ட சொல் யாது?

3, 8, 15, 24, \_\_?\_\_, 48.

(1) 30

(2) 33

(3) 35

(4) 41

Options :

212507119169-1

212507119170-2

212507119171-3

212507119172-4

Question Number : 308 Question Id : 21280719793 Question Type : MCQ Option Shuffling : No Is Question Mandatory : No Calculator : None  
Response Time : N.A Think Time : N.A Minimum Instruction Time : 0

Correct Marks : 5 Wrong Marks : 1

Question Key Details :

Key	Value
Comprehension	MCQ

తప్పిన పదం ఏది ?

3, 8, 15, 24, \_\_?\_\_, 48.

(1) 30

(2) 33

(3) 35

(4) 41

Options :

212807119169-1

212807119170-2

212507119171-3

212807119172-4

Question Number : 305 Question Id : 21280719793 Question Type : MCQ Option Shuffling : No Is Question Mandatory : No Calculator : None  
Response Time : N.A Think Time : N.A Minimum Instruction Time : 0

Correct Marks : 5 Wrong Marks : 1

Question Key Details :

Key	Value
Comprehension	MCQ

شماره نمبر کیا ہے ؟

3, 8, 15, 24, \_\_\_\_\_, 48.

30 (1)

33 (2)

35 (3)

41 (4)

Options :

212807119169-1

212807119170-2

212807119171-3

212807119172-4

Question Number : 309 Question Id : 21280719794 Question Type : MCQ Option Shuffling : No Is Question Mandatory : No Calculator : None  
Response Time : N.A Think Time : N.A Minimum Instruction Time : 0

Correct Marks : 5 Wrong Marks : 1

Question Key Details :

Key	Value
Comprehension	MCQ

Five friends are standing in a row facing South. Jitesh is to the immediate right of Ajay. Prem is between Bobby and Sumit. Sumit is between Jitesh and Prem. Who is at the extreme left end?

(1) Ajay

(2) Prem

(3) Bobby

(4) Sumit

Options :

212807119173-1

212807119174-2

212807119175-3

212807119176-4

Question Number : 309 Question Id : 21280719794 Question Type : MCQ Option Shuffling : No Is Question Mandatory : No Calculator : None  
Response Time : N.A Think Time : N.A Minimum Instruction Time : 0

Correct Marks : 5 Wrong Marks : 1

Question Key Details :

Key	Value
Comprehension	MCQ

एक पॉइंट में पांच मित्र दक्षिण दिशा के सम्मुख खड़े हैं। जितेश, अजय के निकटतम दाएं में है। बॉबी और सुमित के बीच में प्रेम है। जितेश और प्रेम के बीच में सुमित है। तो एकदम बाएं सिरे पर कौन है?

(1) अजय

(2) प्रेम

(3) बॉबी

(4) सुमित

Options :

212807119173-1

212807119174-2

212807119175-3

212807119178.4

Question Number : 309 Question Id : 21280719794 Question Type : MCQ Option Shuffling : No Is Question Mandatory : No Calculator : None  
Response Time : N.A Think Time : N.A Minimum Instruction Time : 0  
Correct Marks : 5 Wrong Marks : 1

Question Key Details :

Key	Value
Comprehension	MCQ

পাঁচজন বন্ধুরে দক্ষিণ দিকত মুখ কৰি এটা শাৰীত থিয় হৈ আছে। আজয়্যৰ একেবাৰে কাষতে জীতেশ বহি আছে। প্ৰেম, বৰি আৰু সুমিতৰ মাজত বহি আছে। সুমিত জীতেশ আৰু প্ৰেমৰ মাজত বহি আছে। বাঁওফালে একেবাৰে শেষত থিয় হৈ থকাজন কোন ?

- (1) আজয়
- (2) প্ৰেম
- (3) বৰি
- (4) সুমিত

Options :

212807119173.1  
212807119174.2  
212807119175.3  
212807119178.4

Question Number : 309 Question Id : 21280719794 Question Type : MCQ Option Shuffling : No Is Question Mandatory : No Calculator : None  
Response Time : N.A Think Time : N.A Minimum Instruction Time : 0  
Correct Marks : 5 Wrong Marks : 1

Question Key Details :

Key	Value
Comprehension	MCQ

পাঁচ বন্ধু একসাগ্ৰিতে দক্ষিণদিকে মুখ কৰে দাঁড়িয়ে আছে। জীতেশ আছে আজয়্যৰ অধিনত্ৰ জনদিকে, প্ৰেম আছে বৰি আৰু সুমিতৰ মাৰে। সুমিত আছে জীতেশ ও প্ৰেমৰ মাৰে। কে চহৰম বাম প্ৰান্তে আছে ?

- (1) আজয়
- (2) প্ৰেম
- (3) বৰি
- (4) সুমিত

Options :

212807119173.1  
212807119174.2  
212807119175.3  
212807119178.4

Question Number : 309 Question Id : 21280719794 Question Type : MCQ Option Shuffling : No Is Question Mandatory : No Calculator : None  
Response Time : N.A Think Time : N.A Minimum Instruction Time : 0  
Correct Marks : 5 Wrong Marks : 1

Question Key Details :

Key	Value
Comprehension	MCQ





ਪੰਜ ਦੇਸ਼ਾਂ ਇਕ ਪੰਕਤੀ ਵਿਚ ਦੱਖਣ ਵਲ ਖੜੇ ਹਨ। ਜੀਤੋਸ ਅਜੈ ਦੇ ਤੁਰੰਤ ਪਾਸੇ ਹੈ। ਪ੍ਰੇਮ ਬਾਬੀ ਤੇ ਸੁਮਿਤ ਦੇ ਵਿਚਕਾਰ ਹੈ। ਸੁਮਿਤ ਜੀਤੋਸ ਤੇ ਪ੍ਰੇਮ ਦੇ ਵਿਚਕਾਰ ਹੈ। ਕੌਣ ਅੱਤੀ ਖੱਬੇ ਅੰਤ ਵਿਚ ਹੈ?

- (1) ਅਜੈ
- (2) ਪ੍ਰੇਮ
- (3) ਬਾਬੀ
- (4) ਸੁਮਿਤ

Options :

- 212807119173 1  
212807119174 2  
212807119175 3  
212807119176 4

Question Number : 309 Question Id : 21280719784 Question Type : MCQ Option Shuffling : No Is Question Mandatory : No Calculator : None  
Response Time : N.A Think Time : N.A Minimum Instruction Time : 0

Correct Marks : 5 Wrong Marks : 1

Question Key Details :

Key	Value
Comprehension	MCQ

ਐਨ੍ਹੇ ਨੁਠੇਪਾਰਕੇਂ ਤੇਹ੍ਰੇਕੁ ਨੇਨਾਕਕੀ ਵਾਰਿਸੇਧਾਸਕੁ ਨਿਰਕੀਰਾਪਾਰਕੇਂ . ਅਯਯਕੁਕੁ ਵਲਪਪੁਰਮ ਯੀਠੇਯੇ ਇਰੁਕਕੀਰਾਪਾਰ . ਪਿਰੇਮ ਪਾਪਿਕੁਕੁਮ ਕਮਿਤੁਕੁਕੁਮ ਇਦੈਯਿਲ ਇਰੁਕਕੀਰਾਨ . ਕਮਿਤ ਯੀਠੇਯੇਕੁਕੁਮ ਪਿਰੇਮੁਕੁਕੁਮ ਇਦੈਯਿਲ ਇਰੁਕਕੀਰਾਪਾਰ . ਕਦੈਸੀ ਇਦੁ ਮੁਠੈਯਿਲ ਇਰੁਪਪੁ ਧਾਪਾਰ?

- (1) ਅਯਯ
- (2) ਪਿਰੇਮ
- (3) ਪਾਪਿਕੁਕੁ
- (4) ਕਮਿਤ

Options :

- 212807119173 1  
212807119174 2  
212807119175 3  
212807119176 4

Question Number : 309 Question Id : 21280719784 Question Type : MCQ Option Shuffling : No Is Question Mandatory : No Calculator : None  
Response Time : N.A Think Time : N.A Minimum Instruction Time : 0

Correct Marks : 5 Wrong Marks : 1

Question Key Details :

Key	Value
Comprehension	MCQ

దక్షిణ దిశను చూస్తూ బదుగురు స్నేహితులు పరుగులో నిల్చున్నారు. అజయ్ కి వెనువెంట కుడిగా జితేష్ ఉన్నాడు. బాబి మరియు సుమిత్రల మధ్య ప్రేమ్ ఉన్నాడు. జితేష్ మరియు ప్రేమ్ల మధ్య సుమిత్ర ఉన్నాడు. ఎవరు ఎవరు చివరలో ఉన్నారు ?

- (1) అజయ్
- (2) ప్రేమ్
- (3) బాబి
- (4) సుమిత్ర

Options :

- 212807119173 1  
212807119174 2  
212807119175 3  
212807119176 4

Question Number : 309 Question Id : 21280719794 Question Type : MCQ Option Shuffling : No Is Question Mandatory : No Calculator : None  
Response Time : N.A Think Time : N.A Minimum Instruction Time : 0

Correct Marks : 5 Wrong Marks : 1

Question Key Details :

Key	Value
Comprehension	MCQ

పాఠ్య ద్వైతం దక్షిణ దిశను చూస్తూ బదుగురు స్నేహితులు పరుగులో నిల్చున్నారు. అజయ్ కి వెనువెంట కుడిగా జితేష్ ఉన్నాడు. బాబి మరియు సుమిత్రల మధ్య ప్రేమ్ ఉన్నాడు. జితేష్ మరియు ప్రేమ్ల మధ్య సుమిత్ర ఉన్నాడు. ఎవరు ఎవరు చివరలో ఉన్నారు ?

- (1) అజయ్
- (2) ప్రేమ్
- (3) బాబి
- (4) సుమిత్ర

Options :

- 212807119173 1  
212807119174 2  
212807119175 3  
212807119176 4

Question Number : 310 Question Id : 21280719795 Question Type : MCQ Option Shuffling : No Is Question Mandatory : No Calculator : None  
Response Time : N.A Think Time : N.A Minimum Instruction Time : 0

Correct Marks : 5 Wrong Marks : 1

Question Key Details :

Key	Value
Comprehension	MCQ

**Statement (I) :** In spite of the claim of the Government of terrorism being under check, killing continues.

**Conclusions (I) :** The terrorists have not come to an understanding with the Government.

**(II) :** The Government has been constantly telling a lie.

Read the statement and which of the conclusions logically follows to the information given in the statement.

- (1) If only I follows
- (2) If only II follows
- (3) If both I & II follows
- (4) If neither I nor II follows

Options :

212807119177.1

212807119178.2

212807119179.3

212807119180.4

Question Number : 310 Question Id : 21280729795 Question Type : MCQ Option Shuffling : No Is Question Mandatory : No Calculator : None  
Response Time : N.A Think Time : N.A Minimum Instruction Time : 0

Correct Marks : 5 Wrong Marks : 1

Question Key Details :

Key	Value
Comprehension	MCQ

**कथन (I) :** आतंकवाद पर नियंत्रण के सरकार के दावे के बावजूद हत्याएं जारी हैं।

**निष्कर्ष (I) :** आतंकवादियों का सरकार के साथ समझौता नहीं हुआ है।

**(II) :** सरकार निरंतर झूठ बोल रही है।

उपर्युक्त कथन को पढ़ें और इस कथन में दो गई सूचना के आधार पर कौन-सा निष्कर्ष तार्किक रूप से अनुसरण करता है ?

- (1) यदि केवल कथन - I का अनुसरण करता है
- (2) यदि केवल कथन - II अनुसरण करता है
- (3) यदि कथन - I और - II दोनों अनुसरण करते हैं
- (4) यदि न तो कथन - I, न ही कथन - II पालन करता है

Options :

212807119177.1

212807119178.2

212807119179.3

212807119180.4

Question Number : 310 Question Id : 21280729795 Question Type : MCQ Option Shuffling : No Is Question Mandatory : No Calculator : None  
Response Time : N.A Think Time : N.A Minimum Instruction Time : 0

Correct Marks : 5 Wrong Marks : 1

Question Key Details :

Key	Value
Comprehension	MCQ



উক্তি (I) : চৰকাৰৰ দাবী সত্ত্বেও, সন্ত্ৰাসবাদ অসীমৰ বাহিৰত আছে আৰু হত্যা অব্যাহত আছে।

সিদ্ধান্ত (I) : সন্ত্ৰাসবাদীসকলে চৰকাৰৰ সৈতে আলোচনাত বহা নাই।

(II) : চৰকাৰে নিবন্ধনভাৱে মিছা মতি আহিছে।

উক্তিটো পঢ়া আৰু সিদ্ধান্তসমূহৰ কোনটোৱে যুক্তিসংগতভাৱে উক্তিটোৰ তথ্যখিনি অনুসৰণ কৰে চিনাক্ত কৰা।

- (1) কেৱল I এ অনুসৰণ কৰে
- (2) কেৱল II এ অনুসৰণ কৰে
- (3) I আৰু II দুয়োটিই কৰে
- (4) I আৰু II ৰ এটাইও অনুসৰণ নকৰে

Options :

- 212807119177.1
- 212807119178.2
- 212807119179.3
- 212807119180.4

Question Number : 310 Question Id : 21280719795 Question Type : MCQ Option Shuffling : No Is Question Mandatory : No Calculator : None  
Response Time : N.A Think Time : N.A Minimum Instruction Time : 0

Correct Marks : 5 Wrong Marks : 1

Question Key Details :

Key	Value
Comprehension	MCQ

উক্তি (I) : সন্ত্ৰাসবাদ নিয়ন্ত্ৰণে সরকারেৰ দাবী সত্ত্বেও, হত্যা অব্যাহত রয়েছে।

সিদ্ধান্ত (I) : সন্ত্ৰাসবাদীসকলে সৰকাৰৰ সৈতে আলোচনাত বহা নাই।

(II) : সরকারপক্ষ প্রতিনিয়ত মিছা কথা বলে আসছে।

বিবৃতিটি পড় এবং কোন সিদ্ধান্তটি যৌক্তিকভাবে বিবৃতিতে প্রদত্ত তথ্যটি মেনে চলে :

- (1) যদি শুধুমাত্র I অনুসরণ করে
- (2) যদি শুধুমাত্র II অনুসরণ করে
- (3) যদি উভয় I এবং II অনুসরণ করে
- (4) যদি I অথবা II কেউই অনুসরণ করে না

Options :

- 212807119177.1
- 212807119178.2
- 212807119179.3
- 212807119180.4

Question Number : 310 Question Id : 21280719795 Question Type : MCQ Option Shuffling : No Is Question Mandatory : No Calculator : None  
Response Time : N.A Think Time : N.A Minimum Instruction Time : 0

Correct Marks : 5 Wrong Marks : 1

Question Key Details :

Key	Value
Comprehension	MCQ

વિધાન (I) : આતંકવાદની સાંકળ, સરકાર નિર્બંધણ હેઠળ હોવા છતાં હત્યા ચાલુ છે.

નિષ્કર્ષ (I) : આતંકવાદીઓ સરકાર સાથે સમજૂતી પર આવ્યા નથી.

(II) : સરકાર સતત ખોટું કહી રહી છે.

વિધાન વાંચી અને નિવેદનમાં આપેલ માહિતીમાંથી નિષ્કર્ષો માંથી કયું તાર્કિક રીતે અનુસરે છે?

- (1) માત્ર I અનુસરે છે
- (2) માત્ર II અનુસરે છે
- (3) બંને I & II અનુસરે છે
- (4) ન તો I કે II અનુસરે છે

Options :

212807119177 1

212807119178 2

212807119179 3

212807119180 4

Question Number : 310 Question Id : 21280729795 Question Type : MCQ Option Shuffling : No Is Question Mandatory : No Calculator : None  
Response Time : N.A Think Time : N.A Minimum Instruction Time : 0

Correct Marks : 5 Wrong Marks : 1

Question Key Details :

Key	Value
Comprehension	MCQ

હેલકે : ધર્મોત્ક્રાંતિની નિયંત્રણ સંસ્થા સરકારના સહયોગે સહાયક સેવાઓ અને કાર્યોનું આયોજન કરવાનું છે. આ સંસ્થાના કાર્યોને આગળ વધારવા માટે સરકારે નીચેના પગલાં લેવાની જાહેરાત કરી છે.

નિર્ણયો I : ધર્મોત્ક્રાંતિની સંસ્થાને સરકારના સહયોગને ઓછું કરવાનું છે.

II : સરકારના સહયોગને ઓછું કરવાનું છે.

હેલકેની આજ્ઞાને આધારે નીચેના નિર્ણયો I અને II માંથી કયું તાર્કિક રીતે અનુસરવાનું છે?

- (1) I માત્ર અનુસરવાનું છે.
- (2) II માત્ર અનુસરવાનું છે.
- (3) I અને II બંને અનુસરવાનું છે.
- (4) I અને II બંને અનુસરવાનું નથી.

Options :

212807119177 1

212807119178 2

212807119179 3

212807119180 4

Question Number : 310 Question Id : 21280729795 Question Type : MCQ Option Shuffling : No Is Question Mandatory : No Calculator : None  
Response Time : N.A Think Time : N.A Minimum Instruction Time : 0

Correct Marks : 5 Wrong Marks : 1

Question Key Details :

Key	Value
Comprehension	MCQ



ਕਥਨ (I) : ਆਰਥਕਾਰ ਖਰਚਾਰਕਾ ਨਰਨਾ ਬਾਮਾਲੇ ਟੁਕਾ ਬਲੇ ਭਯਾ ਕਾਰੀ ਕਰਿਓ ।

ਬੇਬਕਥਾ (I) : ਖਰਚਾਰਕਾ ਖਰਿਓ ਆਰਥਕਾਰਾਮਾਲੇ ਖਰ ਚਿੰਤਾਮਾਲੇ ਆਰਿਕਥਾਓ ।

(II) : ਖਰਚਾਰਕਾ ਚਿੰਤਾਰਕਾ ਕਾਰਕੇ ਸਿਥਾ ਕਰਿਕਥਾਓ ।

ਭਰਿਓਕੂ ਠਰ ਖਰ ਕਰਿਓ ਕੇਓ ਖੁਭਿਓਰ ਬੇਬਕਥਾ ਚਿੰਤਾਮਾਲੇ ।

- (1) ਖਰਿ ਕੇਕਕ I ਟੁਕੁਖਰਕੇ ਕਰੇ
- (2) ਖਰਿ ਕੇਕਕ II ਟੁਕੁਖਰਕੇ ਕਰੇ
- (3) ਖਰਿ ਕੇਕਕ I ਖਰ II ਟੁਕੁਖਰਕੇ ਕਰੇ
- (4) ਖਰਿ I ਖਰ II ਕੇਕਕ ਟੁਕੁਖਰਕੇ ਕਰਿਓ ਕਰਿਓ

Options :

212807119177-1

212807119178-2

212807119179-3

212807119180-4

Question Number : 310 Question Id : 21280719795 Question Type : MCQ Option Shuffling : No Is Question Mandatory : No Calculator : None  
Response Time : N.A Think Time : N.A Minimum Instruction Time : 0

Correct Marks : 5 Wrong Marks : 1

Question Key Details :

Key	Value
Comprehension	MCQ

ਬਿਆਨ (I) : ਇਸ ਦੇ ਬਾਵਜੂਦ ਸਰਕਾਰ ਵਲੋਂ ਅਭਿਵਾਦ ਦੀ ਕੜੀ ਲਗਾਤਾਰ ਚੈਕਿੰਗ ਕੀਤੀ ਜਾ ਰਹੀ ਹੈ ।

ਠਤੀਜਾ (I) : ਅਭਿਵਾਦੀਆਂ ਦਾ ਸਰਕਾਰ ਨਾਲ ਸਮਝੌਤਾ ਨਹੀਂ ਹੋਇਆ ਹੈ ।

(II) : ਸਰਕਾਰ ਲਗਾਤਾਰ ਝੂਠ ਦੱਸ ਰਹੀ ਹੈ।

ਹੇਠਾ ਲਿਖੇ ਕਥਨ ਪੜ੍ਹੋ ਤੇ ਦੱਸੋ ਕਿ ਇਨ੍ਹਾਂ ਬਿਆਨਾਂ ਵਿਚੋਂ ਕਿਹੜਾ ਸਿੱਟਾ ਨਿਕਲਦਾ ਹੈ ।

- (1) ਅਗਰ ਸਿਰਫ I ਪਾਲਣਾ ਕਰਦਾ ਹੈ ।
- (2) ਅਗਰ ਸਿਰਫ II ਪਾਲਣਾ ਕਰਦਾ ਹੈ ।
- (3) ਅਗਰ ਦੋਵੇਂ I ਅਤੇ II ਪਾਲਣਾ ਕਰਦੇ ਹਨ ।
- (4) ਅਗਰ ਨਾ ਹੀ I ਤੇ ਨਾ ਹੀ II ਪਾਲਣਾ ਕਰਦੇ ਹਨ ।

Options :

212807119177-1

212807119178-2

212807119179-3

212807119180-4

Question Number : 310 Question Id : 21280719795 Question Type : MCQ Option Shuffling : No Is Question Mandatory : No Calculator : None  
Response Time : N.A Think Time : N.A Minimum Instruction Time : 0

Correct Marks : 5 Wrong Marks : 1

Question Key Details :

Key	Value
Comprehension	MCQ



بیان (I) : حکومت کا دہشت گردی پر روک تھام کے دعویٰ کے باوجود بھی قتل جاری ہے

نتیجہ (I) : دہشت گرد حکومت کے ساتھ سمجھوتے پر نہیں آتے ہیں

نتیجہ (II) : حکومت اگلا تار جھوٹ بول رہی ہے

بیانات کو نمبر سے پڑھیں اور بتائیں کہ کون سا نتیجہ عقلی طور پر بیانات میں دئے گئے معلومات کے مطابق ہیں۔

(1) صرف (I) مطابق ہے

(2) صرف (II) مطابق ہے

(3) (I) اور (II) دونوں مطابق ہیں

(4) نہ (I) مطابق ہے نہ ہی (II)

Options :

212807119173-1

212807119173-2

212807119173-3

212807119180-4