

National Testing Agency

Question Paper Name : 18S1
Subject Name : 18Jun2023 Shift1 Subject Combination 1
Creation Date : 2023-06-18 15:55:18
Duration : 645
Total Marks : 2850
Display Marks: Yes

English

Group Number : 1
Group Id : 485584739
Group Maximum Duration : 45
Group Minimum Duration : 45
Show Attended Group? : No
Edit Attended Group? : No
Break time : 0
Group Marks : 200
Is this Group for Examiner? : No
Examiner permission : Cant View
Show Progress Bar? : No

English

Section Id : 485584853
Section Number : 1
Section type : Online
Mandatory or Optional : Mandatory
Number of Questions : 50
Number of Questions to be attempted : 40
Section Marks : 200
Enable Mark as Answered Mark for Review and Clear Response : Yes
Maximum Instruction Time : 0
Sub-Section Number : 1
Sub-Section Id : 4855842402
Question Shuffling Allowed : No
Is Section Default? : null

Question Number : 1 Question Id : 48558433166 Question Type : MCQ Option Shuffling : No Is Question Mandatory : No
Calculator : None Response Time : N.A Think Time : N.A Minimum Instruction Time : 0
Correct Marks : 5 Wrong Marks : 1

Question Key Details :

Key	Value
Comprehension	Comp1

Unquestionably a literary life is for the most part an unhappy life; because, if you have genius, you must suffer the penalty of genius; and if you have only talent, there are so many cares and worries incidental to the circumstances of men of letters, as to make life exceedingly miserable. Besides the pangs of composition, and the continuous disappointment which a trues artist feels at his inability to reveal himself, there is the ever-recurring difficulty of gaining the public ear. Young writers are buoyed up by the hope and the belief that they have only to print to be acknowledged at once as a new light in literature. You can never convince a young author that the editors of magazines and the publishers of books are a practical body of men, who are by no means frantically anxious about placing the best literature before the public. Nay, that for the most part they are mere brokers, who conduct their business on the hardest lines of a Profit and Loss account. But supposing your book fairly launches, its perils, are only beginning. You have to run the gauntlet of the critics. To a young author, again, this seems to be as terrible on ordeal as passing down the files of Sioux or Comanche Indians, each one of whom is thirsting for your scalp. When you are a little older, you will find that criticism is not much more serious than the bye-play of clowns in a circus, when they beat around the ring the victim with bladders slung at the end of long poles. A time comes in the life of every author when he regards critics as comical rather than formidable, and goes his way unheeding. But there are sensitive souls that yield under the chastisement and, perhaps after suffering much silent torture, abandon the profession of the pen for ever, Keats, perhaps, is the saddest example of a fine spirit hounded to death by savage criticism; because, whatever his biographers may aver, that furious attack of Gifford and Terry undoubtedly expediated his death. But no doubt there are hundreds who suffer keenly hostile and unscrupulous criticism, and who have to bear that suffering in silence, because it is a cardinal principle in literature that the most unwise thing in the world for an author is to take public notice of criticism in the way of defending himself. Silence is the only safeguard, as it is the only dignified protest against insult and offence.

Why is the literary life mostly an unhappy one?

1. Most people don't understand literary people
2. They have to suffer the penalty of genius
3. Literary life is not about richness
4. They do not get the publishers easily

Options :

- 485584132661. 1
- 485584132662. 2
- 485584132663. 3
- 485584132664. 4

Question Number : 2 Question Id : 48558433167 Question Type : MCQ Option Shuffling : No Is Question Mandatory : No Calculator : None Response Time : N.A Think Time : N.A Minimum Instruction Time : 0

Correct Marks : 5 Wrong Marks : 1

Question Key Details :

Key	Value
Comprehension	Comp1

Unquestionably a literary life is for the most part an unhappy life; because, if you have genius, you must suffer the penalty of genius; and if you have only talent, there are so many cares and worries incidental to the circumstances of men of letters, as to make life exceedingly miserable. Besides the pangs of composition, and the continuous disappointment which a trues artist feels at his inability to reveal himself, there is the ever-recurring difficulty of gaining the public ear. Young writers are buoyed up by the hope and the belief that they have only to print to be acknowledged at once as a new light in literature. You can never convince a young author that the editors of magazines and the publishers of books are a practical body of men, who are by no means frantically anxious about placing the best literature before the public. Nay, that for the most part they are mere brokers, who conduct their business on the hardest lines of a Profit and Loss account. But supposing your book fairly launches, its perils, are only beginning. You have to run the gauntlet of the critics. To a young author, again, this seems to be as terrible on ordeal as passing down the files of Sioux or Comanche Indians, each one of whom is thirsting for your scalp. When you are a little older, you will find that criticism is not much more serious than the bye-play of clowns in a circus, when they beat around the ring the victim with bladders slung at the end of long poles. A time comes in the life of every author when he regards critics as comical rather than formidable, and goes his way unheeding. But there are sensitive souls that yield under the chastisement and, perhaps after suffering much silent torture, abandon the profession of the pen for ever, Keats, perhaps, is the saddest example of a fine spirit hounded to death by savage criticism; because, whatever his biographers may aver, that furious attack of Gifford and Terry undoubtedly expediated his death. But no doubt there are hundreds who suffer keenly hostile and unscrupulous criticism, and who have to bear that suffering in silence, because it is a cardinal principle in literature that the most unwise thing in the world for an author is to take public notice of criticism in the way of defending himself. Silence is the only safeguard, as it is the only dignified protest against insult and offence.

What is the ambition of a young author?

1. To create big name in the literary world
2. To achieve name and fame instantly
3. To create a big dent in the knowledge world
4. To dislodge other big names in the literary world

Options :

- 485584132665. 1
- 485584132666. 2
- 485584132667. 3
- 485584132668. 4

Question Number : 3 Question Id : 48558433168 Question Type : MCQ Option Shuffling : No Is Question Mandatory : No Calculator : None Response Time : N.A Think Time : N.A Minimum Instruction Time : 0

Correct Marks : 5 Wrong Marks : 1

Question Key Details :

Key	Value
Comprehension	Comp1

Unquestionably a literary life is for the most part an unhappy life; because, if you have genius, you must suffer the penalty of genius; and if you have only talent, there are so many cares and worries incidental to the circumstances of men of letters, as to make life exceedingly miserable. Besides the pangs of composition, and the continuous disappointment which a trues artist feels at his inability to reveal himself, there is the ever-recurring difficulty of gaining the public ear. Young writers are buoyed up by the hope and the belief that they have only to print to be acknowledged at once as a new light in literature. You can never convince a young author that the editors of magazines and the publishers of books are a practical body of men, who are by no means frantically anxious about placing the best literature before the public. Nay, that for the most part they are mere brokers, who conduct their business on the hardest lines of a Profit and Loss account. But supposing your book fairly launches, its perils, are only beginning. You have to run the gauntlet of the critics. To a young author, again, this seems to be as terrible on ordeal as passing down the files of Sioux or Comanche Indians, each one of whom is thirsting for your scalp. When you are a little older, you will find that criticism is not much more serious than the bye-play of clowns in a circus, when they beat around the ring the victim with bladders slung at the end of long poles. A time comes in the life of every author when he regards critics as comical rather than formidable, and goes his way unheeding. But there are sensitive souls that yield under the chastisement and, perhaps after suffering much silent torture, abandon the profession of the pen for ever, Keats, perhaps, is the saddest example of a fine spirit hounded to death by savage criticism; because, whatever his biographers may aver, that furious attack of Gifford and Terry undoubtedly expediated his death. But no doubt there are hundreds who suffer keenly hostile and unscrupulous criticism, and who have to bear that suffering in silence, because it is a cardinal principle in literature that the most unwise thing in the world for an author is to take public notice of criticism in the way of defending himself. Silence is the only safeguard, as it is the only dignified protest against insult and offence.

What is the general response of the editors and publishers towards young authors?

1. They are very sympathetic
2. They are very hostile
3. They are very welcoming
4. They are highly indifferent

Options :

- 485584132669. 1
- 485584132670. 2
- 485584132671. 3
- 485584132672. 4

Question Number : 4 Question Id : 48558433169 Question Type : MCQ Option Shuffling : No Is Question Mandatory : No Calculator : None Response Time : N.A Think Time : N.A Minimum Instruction Time : 0

Correct Marks : 5 Wrong Marks : 1

Question Key Details :

Key	Value
Comprehension	Comp1

Unquestionably a literary life is for the most part an unhappy life; because, if you have genius, you must suffer the penalty of genius; and if you have only talent, there are so many cares and worries incidental to the circumstances of men of letters, as to make life exceedingly miserable. Besides the pangs of composition, and the continuous disappointment which a trues artist feels at his inability to reveal himself, there is the ever-recurring difficulty of gaining the public ear. Young writers are buoyed up by the hope and the belief that they have only to print to be acknowledged at once as a new light in literature. You can never convince a young author that the editors of magazines and the publishers of books are a practical body of men, who are by no means frantically anxious about placing the best literature before the public. Nay, that for the most part they are mere brokers, who conduct their business on the hardest lines of a Profit and Loss account. But supposing your book fairly launches, its perils, are only beginning. You have to run the gauntlet of the critics. To a young author, again, this seems to be as terrible on ordeal as passing down the files of Sioux or Comanche Indians, each one of whom is thirsting for your scalp. When you are a little older, you will find that criticism is not much more serious than the bye-play of clowns in a circus, when they beat around the ring the victim with bladders slung at the end of long poles. A time comes in the life of every author when he regards critics as comical rather than formidable, and goes his way unheeding. But there are sensitive souls that yield under the chastisement and, perhaps after suffering much silent torture, abandon the profession of the pen for ever, Keats, perhaps, is the saddest example of a fine spirit hounded to death by savage criticism; because, whatever his biographers may aver, that furious attack of Gifford and Terry undoubtedly expediated his death. But no doubt there are hundreds who suffer keenly hostile and unscrupulous criticism, and who have to bear that suffering in silence, because it is a cardinal principle in literature that the most unwise thing in the world for an author is to take public notice of criticism in the way of defending himself. Silence is the only safeguard, as it is the only dignified protest against insult and offence.

What attitude should an author adopt in the face of bitter critics?

1. All criticism should be accepted nicely.
2. All criticism should be rejected.
3. All criticism should be written about.
4. Silence is the best response.

Options :

- 485584132673. 1
- 485584132674. 2
- 485584132675. 3
- 485584132676. 4

Question Number : 5 Question Id : 48558433170 Question Type : MCQ Option Shuffling : No Is Question Mandatory : No Calculator : None Response Time : N.A Think Time : N.A Minimum Instruction Time : 0

Correct Marks : 5 Wrong Marks : 1

Question Key Details :

Key	Value
Comprehension	Comp1

Unquestionably a literary life is for the most part an unhappy life; because, if you have genius, you must suffer the penalty of genius; and if you have only talent, there are so many cares and worries incidental to the circumstances of men of letters, as to make life exceedingly miserable. Besides the pangs of composition, and the continuous disappointment which a trues artist feels at his inability to reveal himself, there is the ever-recurring difficulty of gaining the public ear. Young writers are buoyed up by the hope and the belief that they have only to print to be acknowledged at once as a new light in literature. You can never convince a young author that the editors of magazines and the publishers of books are a practical body of men, who are by no means frantically anxious about placing the best literature before the public. Nay, that for the most part they are mere brokers, who conduct their business on the hardest lines of a Profit and Loss account. But supposing your book fairly launches, its perils, are only beginning. You have to run the gauntlet of the critics. To a young author, again, this seems to be as terrible on ordeal as passing down the files of Sioux or Comanche Indians, each one of whom is thirsting for your scalp. When you are a little older, you will find that criticism is not much more serious than the bye-play of clowns in a circus, when they beat around the ring the victim with bladders slung at the end of long poles. A time comes in the life of every author when he regards critics as comical rather than formidable, and goes his way unheeding. But there are sensitive souls that yield under the chastisement and, perhaps after suffering much silent torture, abandon the profession of the pen for ever, Keats, perhaps, is the saddest example of a fine spirit hounded to death by savage criticism; because, whatever his biographers may aver, that furious attack of Gifford and Terry undoubtedly expediated his death. But no doubt there are hundreds who suffer keenly hostile and unscrupulous criticism, and who have to bear that suffering in silence, because it is a cardinal principle in literature that the most unwise thing in the world for an author is to take public notice of criticism in the way of defending himself. Silence is the only safeguard, as it is the only dignified protest against insult and offence.

Explain "Abandon the profession of pen"

1. Publishing sector
2. literary life
3. Pen-making Industry
4. The world of critics

Options :

- 485584132677. 1
- 485584132678. 2
- 485584132679. 3
- 485584132680. 4

Sub-Section Number : 2
Sub-Section Id : 4855842403
Question Shuffling Allowed : No
Is Section Default? : null

Question Number : 6 Question Id : 48558433171 Question Type : MCQ Option Shuffling : No Is Question Mandatory : No Calculator : None Response Time : N.A Think Time : N.A Minimum Instruction Time : 0

Correct Marks : 5 Wrong Marks : 1

Question Key Details :

Key	Value
Comprehension	Comp2

Organisms change over time. Some of these changes make no difference to the success or failure of the organism that inherit them; other changes do. Take a group of antelopes in which one individual has longer legs than its siblings. Those longer legs make the individual better at escaping from predators, hence giving it an advantage in the survival stakes. Its descendants inherit this feature and are better able to survive as a consequence. Those longer legs have thus become an 'adaptation' Their evolution means that this particular lineage of ante lopes has adapted to its conditions, thanks to its development of this features. Their evolution means that this particular lineage of ante lopes

Over the generations, the individual components of the genetic code within a species change, or mutate. So far as we know, mutations mny provide no evolutionary advantage at all. They may be disadvantageous, in which case they are weeded out via natural selection; or they may be advantageous, in which case they persist through the generations.

Choose the most appropriate meaning of the given word:

MUTATION

1. undergo a change in the genetic code
2. transform into another organism
3. a rupture in the organism's growth
4. rapid change in the bone structure of the organism

Options :

- 485584132681. 1
- 485584132682. 2
- 485584132683. 3
- 485584132684. 4

Question Number : 7 Question Id : 48558433172 Question Type : MCQ Option Shuffling : No Is Question Mandatory : No Calculator : None Response Time : N.A Think Time : N.A Minimum Instruction Time : 0

Correct Marks : 5 Wrong Marks : 1

Question Key Details :

Key	Value
Comprehension	Comp2

Organisms change over time. Some of these changes make no difference to the success or failure of the organism that inherit them; other changes do. Take a group of antelopes in which one individual has longer legs than its siblings. Those longer legs make the individual better at escaping from predators, hence giving it an advantage in the survival stakes. Its descendants inherit this feature and are better able to survive as a consequence. Those longer legs have thus become an 'adaptation' Their evolution means that this particular lineage of ante lopes has adapted to its conditions, thanks to its development of this features. Their evolution means that this particular lineage of ante lopes

Over the generations, the individual components of the genetic code within a species change, or mutate. So far as we know, mutations mny provide no evolutionary advantage at all. They may be disadvantageous, in which case they are weeded out via natural selection; or they may be advantageous, in which case they persist through the generations.

Choose the most appropriate answer to the following question.
How have antelopes adapted to get better at escaping from predators?

1. The long legs of the antelopes help them run faster and have become an adaptations
2. Their horns help them defeat predators
3. They have no advantageous mutations
4. They have a keen sense of smell

Options :

- 485584132685. 1
- 485584132686. 2
- 485584132687. 3
- 485584132688. 4

Question Number : 8 Question Id : 48558433173 Question Type : MCQ Option Shuffling : No Is Question Mandatory : No Calculator : None Response Time : N.A Think Time : N.A Minimum Instruction Time : 0

Correct Marks : 5 Wrong Marks : 1

Question Key Details :

Key	Value
Comprehension	Comp2

Organisms change over time. Some of these changes make no difference to the success or failure of the organism that inherit them; other changes do. Take a group of antelopes in which one individual has longer legs than its siblings. Those longer legs make the individual better at escaping from predators, hence giving it an advantage in the survival stakes. Its descendants inherit this feature and are better able to survive as a consequence. Those longer legs have thus become an 'adaptation' Their evolution means that this particular lineage of antelopes has adapted to its conditions, thanks to its development of this features. Their evolution means that this particular lineage of antelopes

Over the generations, the individual components of the genetic code within a species change, or mutate. So far as we know, mutations may provide no evolutionary advantage at all. They may be disadvantageous, in which case they are weeded out via natural selection; or they may be advantageous, in which case they persist through the generations.

What happens to disadvantageous mutations?

1. they are renewed through natural reduction
2. They persist through the generations
3. They remain an additional burden on the species
4. None of the above

Options :

- 485584132689. 1
- 485584132690. 2
- 485584132691. 3
- 485584132692. 4

Question Number : 9 Question Id : 48558433174 Question Type : MCQ Option Shuffling : No Is Question Mandatory : No Calculator : None Response Time : N.A Think Time : N.A Minimum Instruction Time : 0

Correct Marks : 5 Wrong Marks : 1

Question Key Details :

Key	Value
Comprehension	Comp2

Organisms change over time. Some of these changes make no difference to the success or failure of the organism that inherit them; other changes do. Take a group of antelopes in which one individual has longer legs than its siblings. Those longer legs make the individual better at escaping from predators, hence giving it an advantage in the survival stakes. Its descendants inherit this feature and are better able to survive as a consequence. Those longer legs have thus become an 'adaptation' Their evolution means that this particular lineage of ante lopes has adapted to its conditions, thanks to its development of this features. Their evolution means that this particular lineage of ante lopes

Over the generations, the individual components of the genetic code within a species change, or mutate. So far as we know, mutations mny provide no evolutionary advantage at all. They may be disadvantageous, in which case they are weeded out via natural selection; or they may be advantageous, in which case they persist through the generations.

Why do some mutations persist through generations?

1. They are harmful to the animal
2. They make no difference to the animal's survival
3. They are ornamental
4. They are advantageous to the animal

Options :

485584132693. 1

485584132694. 2

485584132695. 3

485584132696. 4

Question Number : 10 Question Id : 48558433175 Question Type : MCQ Option Shuffling : No Is Question Mandatory : No Calculator : None Response Time : N.A Think Time : N.A Minimum Instruction Time : 0

Correct Marks : 5 Wrong Marks : 1

Question Key Details :

Key	Value
Comprehension	Comp2

Organisms change over time. Some of these changes make no difference to the success or failure of the organism that inherit them; other changes do. Take a group of antelopes in which one individual has longer legs than its siblings. Those longer legs make the individual better at escaping from predators, hence giving it an advantage in the survival stakes. Its descendants inherit this feature and are better able to survive as a consequence. Those longer legs have thus become an 'adaptation' Their evolution means that this particular lineage of ante lopes has adapted to its conditions, thanks to its development of this features. Their evolution means that this particular lineage of ante lopes

Over the generations, the individual components of the genetic code within a species change, or mutate. So far as we know, mutations mny provide no evolutionary advantage at all. They may be disadvantageous, in which case they are weeded out via natural selection; or they may be advantageous, in which case they persist through the generations.

Choose an appropriate title for the passage from the following options:-

1. Adaptation and Mutation
2. Mutation: A Necessity
3. Genetic Code
4. Survival of the Antelope

Options :

- 485584132697. 1
- 485584132698. 2
- 485584132699. 3
- 485584132700. 4

Sub-Section Number : 3
Sub-Section Id : 4855842404
Question Shuffling Allowed : No
Is Section Default? : null

Question Number : 11 Question Id : 48558433176 Question Type : MCQ Option Shuffling : No Is Question Mandatory : No Calculator : None Response Time : N.A Think Time : N.A Minimum Instruction Time : 0

Correct Marks : 5 Wrong Marks : 1

Question Key Details :

Key	Value
Comprehension	Comp3

Supposing you have to make a payment of Rs.100, you can do so in rupees-coins; but it would be cumbersome to pay in nickel or copper coins, because they are heavy to carry and also because it takes much time to count them. The government therefore permits you to make the payment in rupee-notes. What are these rupee notes really? They are kind of money, right enough, although they are made of paper instead of metal. You can use them in just the same way that you use ordinary money. The reason why they are made of paper and used is that they save the trouble of carrying metal coins about-of course, paper is lighter than metal-and they also save using silver and other metals when they are scarce.

What makes these mere pieces of of paper bear the value of the number of rupees that is printed upon them? Why should a piece of paper, with "100" printed on it be worth twenty times as much as a piece of paper with "five" printed on it-and also worth a hundred times as much as a silver rupee-coin? The reason is that Government guarantees that the piece of paper is worth the amount printed an it and promised to pay that amount to any body who wishes to exchange this paper for the rupee-coins. Also, if you think about it you can easily realize that crores and crores more of rupee-coins would have to be minted, if all paper-money were abolished.

Perhaps you may ask, "Then why not have paper money only?" Why use silver and Nickle and copper at all? The answer is-because money must, as we have already said, be something so useful that everyone wants. Also because the metals are the best form of money; and thirdly because it would be impossible to print just the right amount of paper money that would keep prices at their proper natural level. It any Government prints too much paper money, then prices go up at once. The supply of money is increased and therefore its value (in food, clothes, books, houses, land, tools and everything else) goes down.

You may think at first that it is queer to talk of having too much paper money and the money is so nice and useful that you cannot have too much of it. But if you think that, I an afraid you are forgetting that money is only useful for what it will buy; so it is no good at all having more money if there are no more things to buy with it. The more money there is , the higher will be the prices of everything. The same thing happens with rupee-coins as with paper money. But it is not likely to happen, for this reason: it is very easy to print a great deal of paper money, but not at all easy to increase the amount there is if it keeps very steady and changes very little. In fact that is one of the chief reasons why it was chosen to make coins of.

The Government allows payment to be made in _____

1. nickel
2. rupee coins
3. copper coins
4. rupee notes

Options :

- 485584132701. 1
- 485584132702. 2
- 485584132703. 3
- 485584132704. 4

Question Number : 12 Question Id : 48558433177 Question Type : MCQ Option Shuffling : No Is Question Mandatory : No Calculator : None Response Time : N.A Think Time : N.A Minimum Instruction Time : 0

Correct Marks : 5 Wrong Marks : 1

Question Key Details :

Key	Value
Comprehension	Comp3

Supposing you have to make a payment of Rs.100, you can do so in rupees-coins; but it would be cumbersome to pay in nickel or copper coins, because they are heavy to carry and also because it takes much time to count them. The government therefore permits you to make the payment in rupee-notes. What are these rupee notes really? They are kind of money, right enough, although they are made of paper instead of metal. You can use them in just the same way that you use ordinary money. The reason why they are made of paper and used is that they save the trouble of carrying metal coins about-of course, paper is lighter than metal-and they also save using silver and other metals when they are scarce.

What makes these mere pieces of of paper bear the value of the number of rupees that is printed upon them? Why should a piece of paper, with "100" printed on it be worth twenty times as much as a piece of paper with "five" printed on it-and also worth a hundred times as much as a silver rupee-coin? The reason is that Government guarantees that the piece of paper is worth the amount printed an it and promised to pay that amount to any body who wishes to exchange this paper for the rupee-coins. Also, if you think about it you can easily realize that crores and crores more of rupee-coins would have to be minted, if all paper-money were abolished.

Perhaps you may ask, "Then why not have paper money only?" Why use silver and Nickle and copper at all? The answer is-because money must, as we have already said, be something so useful that everyone wants. Also because the metals are the best form of money; and thirdly because it would be impossible to print just the right amount of paper money that would keep prices at their proper natural level. If any Government prints too much paper money, then prices go up at once. The supply of money is increased and therefore its value (in food, clothes, books, houses, land, tools and everything else) goes down.

You may think at first that it is queer to talk of having too much paper money and the money is so nice and useful that you cannot have too much of it. But if you think that, I an afraid you are forgetting that money is only useful for what it will buy; so it is no good at all having more money if there are no more things to buy with it. The more money there is , the higher will be the prices of everything. The same thing happens with rupee-coins as with paper money. But it is not likely to happen, for this reason: it is very easy to print a great deal of paper money, but not at all easy to increase the amount there is if it keeps very steady and changes very little. In fact that is one of the chief reasons why it was chosen to make coins of.

What are these rupee notes made of?

1. coins
2. nickel
3. paper
4. copper coins

Options :

- 485584132705. 1
- 485584132706. 2
- 485584132707. 3
- 485584132708. 4

Question Number : 13 Question Id : 48558433178 Question Type : MCQ Option Shuffling : No Is Question Mandatory : No Calculator : None Response Time : N.A Think Time : N.A Minimum Instruction Time : 0

Correct Marks : 5 Wrong Marks : 1

Question Key Details :

Key	Value
Comprehension	Comp3

Supposing you have to make a payment of Rs.100, you can do so in rupees-coins; but it would be cumbersome to pay in nickel or copper coins, because they are heavy to carry and also because it takes much time to count them. The government therefore permits you to make the payment in rupee-notes. What are these rupee notes really? They are kind of money, right enough, although they are made of paper instead of metal. You can use them in just the same way that you use ordinary money. The reason why they are made of paper and used is that they save the trouble of carrying metal coins about-of course, paper is lighter than metal-and they also save using silver and other metals when they are scarce.

What makes these mere pieces of of paper bear the value of the number of rupees that is printed upon them? Why should a piece of paper, with "100" printed on it be worth twenty times as much as a piece of paper with "five" printed on it-and also worth a hundred times as much as a silver rupee-coin? The reason is that Government guarantees that the piece of paper is worth the amount printed an it and promised to pay that amount to any body who wishes to exchange this paper for the rupee-coins. Also, if you think about it you can easily realize that crores and crores more of rupee-coins would have to be minted, if all paper-money were abolished.

Perhaps you may ask, "Then why not have paper money only?" Why use silver and Nickle and copper at all? The answer is-because money must, as we have already said, be something so useful that everyone wants. Also because the metals are the best form of money; and thirdly because it would be impossible to print just the right amount of paper money that would keep prices at their proper natural level. If any Government prints too much paper money, then prices go up at once. The supply of money is increased and therefore its value (in food, clothes, books, houses, land, tools and everything else) goes down.

You may think at first that it is queer to talk of having too much paper money and the money is so nice and useful that you cannot have too much of it. But if you think that, I an afraid you are forgetting that money is only useful for what it will buy; so it is no good at all having more money if there are no more things to buy with it. The more money there is , the higher will be the prices of everything. The same thing happens with rupee-coins as with paper money. But it is not likely to happen, for this reason: it is very easy to print a great deal of paper money, but not at all easy to increase the amount there is if it keeps very steady and changes very little. In fact that is one of the chief reasons why it was chosen to make coins of.

_____ are the best form of money

1. paper-notes
2. metals
3. nickel coins
4. copper coins

Options :

- 485584132709. 1
- 485584132710. 2
- 485584132711. 3
- 485584132712. 4

Question Number : 14 Question Id : 48558433179 Question Type : MCQ Option Shuffling : No Is Question Mandatory : No Calculator : None Response Time : N.A Think Time : N.A Minimum Instruction Time : 0

Correct Marks : 5 Wrong Marks : 1

Question Key Details :

Key	Value
Comprehension	Comp3

Supposing you have to make a payment of Rs.100, you can do so in rupees-coins; but it would be cumbersome to pay in nickel or copper coins, because they are heavy to carry and also because it takes much time to count them. The government therefore permits you to make the payment in rupee-notes. What are these rupee notes really? They are kind of money, right enough, although they are made of paper instead of metal. You can use them in just the same way that you use ordinary money. The reason why they are made of paper and used is that they save the trouble of carrying metal coins about-of course, paper is lighter than metal-and they also save using silver and other metals when they are scarce.

What makes these mere pieces of of paper bear the value of the number of rupees that is printed upon them? Why should a piece of paper, with "100" printed on it be worth twenty times as much as a piece of paper with "five" printed on it-and also worth a hundred times as much as a silver rupee-coin? The reason is that Government guarantees that the piece of paper is worth the amount printed an it and promised to pay that amount to any body who wishes to exchange this paper for the rupee-coins. Also, if you think about it you can easily realize that crores and crores more of rupee-coins would have to be minted, if all paper-money were abolished.

Perhaps you may ask, "Then why not have paper money only?" Why use silver and Nickle and copper at all? The answer is-because money must, as we have already said, be something so useful that everyone wants. Also because the metals are the best form of money; and thirdly because it would be impossible to print just the right amount of paper money that would keep prices at their proper natural level. It any Government prints too much paper money, then prices go up at once. The supply of money is increased and therefore its value (in food, clothes, books, houses, land, tools and everything else) goes down.

You may think at first that it is queer to talk of having too much paper money and the money is so nice and useful that you cannot have too much of it. But if you think that, I an afraid you are forgetting that money is only useful for what it will buy; so it is no good at all having more money if there are no more things to buy with it. The more money there is , the higher will be the prices of everything. The same thing happens with rupee-coins as with paper money. But it is not likely to happen, for this reason: it is very easy to print a great deal of paper money, but not at all easy to increase the amount there is if it keeps very steady and changes very little. In fact that is one of the chief reasons why it was chosen to make coins of.

If the government prints too much paper money, then prices _____ at once

1. go up
2. go down
3. remain stable
4. don't change

Options :

- 485584132713. 1
- 485584132714. 2
- 485584132715. 3
- 485584132716. 4

Question Number : 15 Question Id : 48558433180 Question Type : MCQ Option Shuffling : No Is Question Mandatory : No Calculator : None Response Time : N.A Think Time : N.A Minimum Instruction Time : 0

Correct Marks : 5 Wrong Marks : 1

Question Key Details :

Key	Value
Comprehension	Comp3

Supposing you have to make a payment of Rs.100, you can do so in rupees-coins; but it would be cumbersome to pay in nickel or copper coins, because they are heavy to carry and also because it takes much time to count them. The government therefore permits you to make the payment in rupee-notes. What are these rupee notes really? They are kind of money, right enough, although they are made of paper instead of metal. You can use them in just the same way that you use ordinary money. The reason why they are made of paper and used is that they save the trouble of carrying metal coins about-of course, paper is lighter than metal-and they also save using silver and other metals when they are scarce.

What makes these mere pieces of of paper bear the value of the number of rupees that is printed upon them? Why should a piece of paper, with "100" printed on it be worth twenty times as much as a piece of paper with "five" printed on it-and also worth a hundred times as much as a silver rupee-coin? The reason is that Government guarantees that the piece of paper is worth the amount printed an it and promised to pay that amount to any body who wishes to exchange this paper for the rupee-coins. Also, if you think about it you can easily realize that crores and crores more of rupee-coins would have to be minted, if all paper-money were abolished.

Perhaps you may ask, "Then why not have paper money only?" Why use silver and Nickle and copper at all? The answer is-because money must, as we have already said, be something so useful that everyone wants. Also because the metals are the best form of money; and thirdly because it would be impossible to print just the right amount of paper money that would keep prices at their proper natural level. If any Government prints too much paper money, then prices go up at once. The supply of money is increased and therefore its value (in food, clothes, books, houses, land, tools and everything else) goes down.

You may think at first that it is queer to talk of having too much paper money and the money is so nice and useful that you cannot have too much of it. But if you think that, I an afraid you are forgetting that money is only useful for what it will buy; so it is no good at all having more money if there are no more things to buy with it. The more money there is , the higher will be the prices of everything. The same thing happens with rupee-coins as with paper money. But it is not likely to happen, for this reason: it is very easy to print a great deal of paper money, but not at all easy to increase the amount there is if it keeps very steady and changes very little. In fact that is one of the chief reasons why it was chosen to make coins of.

The more money there is _____ will be the prices of everything.

1. the lesser
2. the higher
3. the better
4. the worse

Options :

- 485584132717. 1
- 485584132718. 2
- 485584132719. 3
- 485584132720. 4

Sub-Section Number :	4
Sub-Section Id :	4855842405
Question Shuffling Allowed :	Yes
Is Section Default? :	null

Question Number : 16 Question Id : 48558433181 Question Type : MCQ Option Shuffling : No Is Question Mandatory : No Calculator : None Response Time : N.A Think Time : N.A Minimum Instruction Time : 0 Correct Marks : 5 Wrong Marks : 1

Question Key Details :

Key	Value
Comprehension	MCQ

Match List I with List II

Fill in the blanks with appropriate modals from in the sentences given in the list

LIST I		LIST II	
A.	_____ I go now?	I.	shall
B.	We _____ learn swimming	II.	can
C.	You _____ reach home before dark	III.	should
D.	We _____ discuss this matter tomorrow	IV.	ought to

Choose the correct answer from the options given below:

1. A-II, B-III, C-IV, D-I
2. A-I, B-II, C-III, D-IV
3. A-I, B-III, C-IV, D-I
4. A-III, B-IV, C-II, D-I

Options :

485584132721. 1
 485584132722. 2
 485584132723. 3
 485584132724. 4

Question Number : 17 Question Id : 48558433182 Question Type : MCQ Option Shuffling : No Is Question Mandatory : No Calculator : None Response Time : N.A Think Time : N.A Minimum Instruction Time : 0

Correct Marks : 5 Wrong Marks : 1

Question Key Details :

Key	Value
Comprehension	MCQ

Fill in the most appropriate modal from the given options

Measles _____ be quite dangerous

1. could
2. can
3. should
4. would

Options :

485584132725. 1
 485584132726. 2
 485584132727. 3
 485584132728. 4

Question Number : 18 Question Id : 48558433183 Question Type : MCQ Option Shuffling : No Is Question Mandatory : No Calculator : None Response Time : N.A Think Time : N.A Minimum Instruction Time : 0

Correct Marks : 5 Wrong Marks : 1

Question Key Details :

Key	Value
Comprehension	MCQ

Spot the error in the following sentence

1. It is often said that
2. some men are born great
3. some achieve greatness and
4. some had greatness threst on them

Options :

- 485584132729. 1
- 485584132730. 2
- 485584132731. 3
- 485584132732. 4

Question Number : 19 Question Id : 48558433184 Question Type : MCQ Option Shuffling : No Is Question Mandatory : No Calculator : None Response Time : N.A Think Time : N.A Minimum Instruction Time : 0

Correct Marks : 5 Wrong Marks : 1

Question Key Details :

Key	Value
Comprehension	MCQ

Change the voice of the following sentence from active to passive:

"I opened the window"

Choose the most appropriate option:

1. I was the one who opened option the window
2. The window was opened and I did it.
3. The window was by I.
4. The window was opened by me.

Options :

- 485584132733. 1
- 485584132734. 2
- 485584132735. 3
- 485584132736. 4

Question Number : 20 Question Id : 48558433185 Question Type : MCQ Option Shuffling : No Is Question Mandatory : No Calculator : None Response Time : N.A Think Time : N.A Minimum Instruction Time : 0

Correct Marks : 5 Wrong Marks : 1

Question Key Details :

Key	Value
Comprehension	MCQ

Change the voice of the following sentence from the passive to Active

"The essay was edited by the professor."

1. The professor found the essay and edited it.
2. The professor edited the essay.
3. The professor edited something which was the essay.
4. The professor was edited by the essay.

Options :

- 485584132737. 1
- 485584132738. 2
- 485584132739. 3
- 485584132740. 4

Question Number : 21 Question Id : 48558433186 Question Type : MCQ Option Shuffling : No Is Question Mandatory : No Calculator : None Response Time : N.A Think Time : N.A Minimum Instruction Time : 0

Correct Marks : 5 Wrong Marks : 1

Question Key Details :

Key	Value
Comprehension	MCQ

Choose the most appropriate meaning of the following foreign word: "nom de plume"

1. Plumage of a bird
2. Last resort
3. Pen-name
4. Method of operating

Options :

- 485584132741. 1
- 485584132742. 2
- 485584132743. 3
- 485584132744. 4

Question Number : 22 Question Id : 48558433187 Question Type : MCQ Option Shuffling : No Is Question Mandatory : No Calculator : None Response Time : N.A Think Time : N.A Minimum Instruction Time : 0

Correct Marks : 5 Wrong Marks : 1

Question Key Details :

Key	Value
Comprehension	MCQ

Match the words in List I with their meanings in List II

LIST I		LIST II	
A.	Mandate	I.	reward
B.	recompense	II.	comfort in time of distress
C.	Solace	III.	an official order to do something
D.	Tatters	IV.	torn pieces of cloth or paper

Choose the correct answer from the options given below:

1. A-I, B-II, C-IV, D-III
2. A-II, B-III, C-I, D-IV
3. A-III, B-I, C-II, D-IV
4. A-IV, B-III, C-II, D-I

Options :

485584132745. 1
485584132746. 2
485584132747. 3
485584132748. 4

Question Number : 23 Question Id : 48558433188 Question Type : MCQ Option Shuffling : No Is Question Mandatory : No Calculator : None Response Time : N.A Think Time : N.A Minimum Instruction Time : 0

Correct Marks : 5 Wrong Marks : 1

Question Key Details :

Key	Value
Comprehension	MCQ

Choose the most appropriate meaning of the following foreign word: "Papier mache"

1. Paper mixed with glue
2. Paper mixed with metal
3. Paper mixed with soil
4. Paper mixed with charcoal

Options :

485584132749. 1
485584132750. 2
485584132751. 3
485584132752. 4

Question Number : 24 Question Id : 48558433189 Question Type : MCQ Option Shuffling : No Is Question Mandatory : No Calculator : None Response Time : N.A Think Time : N.A Minimum Instruction Time : 0

Correct Marks : 5 Wrong Marks : 1

Question Key Details :

Key	Value
Comprehension	MCQ

Change the following sentence from Direct speech to Indirect Speech:
The coach promised, " If you will come before school tomorrow, I will teach it,"

Choose appropriate option.

1. The coach promised to meet me after school and teach it.
2. The coach promised that if came before school the next day, he would teach it to me.
3. The coach promised to come before school and teach it to me.
4. The coach promised that I will be thought before school if I came

Options :

- 485584132753. 1
- 485584132754. 2
- 485584132755. 3
- 485584132756. 4

Question Number : 25 Question Id : 48558433190 Question Type : MCQ Option Shuffling : No Is Question Mandatory : No Calculator : None Response Time : N.A Think Time : N.A Minimum Instruction Time : 0

Correct Marks : 5 Wrong Marks : 1

Question Key Details :

Key	Value
Comprehension	MCQ

Change the following sentence from Indirect speech to Direct Speech.

She said, "Bravo! You did better than last time"

Choose the most appropriate option:

1. She applauded him, saying that he had done better than last time.
2. She said bravo to him and pointed out that he had done better than last time.
3. She was happy that he had done better than last time.
4. She could not believe that he had done better than last time and said bravo to him.

Options :

- 485584132757. 1
- 485584132758. 2
- 485584132759. 3
- 485584132760. 4

Question Number : 26 Question Id : 48558433191 Question Type : MCQ Option Shuffling : No Is Question Mandatory : No Calculator : None Response Time : N.A Think Time : N.A Minimum Instruction Time : 0

Correct Marks : 5 Wrong Marks : 1

Question Key Details :

Key	Value
Comprehension	MCQ

Choose the most appropriate synonym for the following word: "Alarm"

1. Foresee
2. Sleep
3. Awake
4. Shock

Options :

485584132761. 1
485584132762. 2
485584132763. 3
485584132764. 4

Question Number : 27 Question Id : 48558433192 Question Type : MCQ Option Shuffling : No Is Question Mandatory : No Calculator : None Response Time : N.A Think Time : N.A Minimum Instruction Time : 0

Correct Marks : 5 Wrong Marks : 1

Question Key Details :

Key	Value
Comprehension	MCQ

Choose the best option to convert the given exclamatory sentence is to Assertive sentence:-

How stupid of me to forget your name!

1. It is stupid of me to forget your name
2. I wonder how can I be stupid to forget your name
3. I can never be stupid to forget your name
4. Forgetting your name is my stupid behaviour

Options :

485584132765. 1
485584132766. 2
485584132767. 3
485584132768. 4

Question Number : 28 Question Id : 48558433193 Question Type : MCQ Option Shuffling : No Is Question Mandatory : No Calculator : None Response Time : N.A Think Time : N.A Minimum Instruction Time : 0

Correct Marks : 5 Wrong Marks : 1

Question Key Details :

Key	Value
Comprehension	MCQ

Choose the best option to convert the given assertive sentence in to exclamatory sentence:-

I wish I knew more people here

1. If only I knew more people here!
2. Oh! I knew more people here.
3. What a pity to have known more people here!
4. Alas! I could have known more people here.

Options :

- 485584132769. 1
- 485584132770. 2
- 485584132771. 3
- 485584132772. 4

Question Number : 29 Question Id : 48558433194 Question Type : MCQ Option Shuffling : No Is Question Mandatory : No Calculator : None Response Time : N.A Think Time : N.A Minimum Instruction Time : 0

Correct Marks : 5 Wrong Marks : 1

Question Key Details :

Key	Value
Comprehension	MCQ

Match List I with List II

Fill in appropriate modals from list II in The sentences in List I.

LIST I		LIST II	
A.	No one _____ question the ways of God.	I.	Could
B.	How _____ you should at your parents?	II.	Would
C.	_____ you like to have breakfast with me?	III.	can
D.	We _____ respect our elders	IV.	ought to

Choose the correct answer from the options given below:

1. A-I, B-II, C-III, D-IV
2. A-II, B-III, C-I, D-IV
3. A-III, B-I, C-II, D-IV
4. A-IV, B-III, C-I, D-II

Options :

- 485584132773. 1
- 485584132774. 2
- 485584132775. 3
- 485584132776. 4

Question Number : 30 Question Id : 48558433195 Question Type : MCQ Option Shuffling : No Is Question Mandatory : No Calculator : None Response Time : N.A Think Time : N.A Minimum Instruction Time : 0

Correct Marks : 5 Wrong Marks : 1

Question Key Details :

Key	Value
Comprehension	MCQ

Fill in correct modals in the given sentence from the given options:-

I wish I _____ help you, but I have no money.

1. may
2. could
3. might
4. can

Options :

- 485584132777. 1
- 485584132778. 2
- 485584132779. 3
- 485584132780. 4

Question Number : 31 Question Id : 48558433196 Question Type : MCQ Option Shuffling : No Is Question Mandatory : No Calculator : None Response Time : N.A Think Time : N.A Minimum Instruction Time : 0

Correct Marks : 5 Wrong Marks : 1

Question Key Details :

Key	Value
Comprehension	MCQ

Which of the following is an appropriate subscription for a formal letter?

Choose from the options given below:

1. Yours sincerely
2. Yours lovingly
3. Yours forever
4. Your dear friend

Options :

- 485584132781. 1
- 485584132782. 2
- 485584132783. 3
- 485584132784. 4

Question Number : 32 Question Id : 48558433197 Question Type : MCQ Option Shuffling : No Is Question Mandatory : No Calculator : None Response Time : N.A Think Time : N.A Minimum Instruction Time : 0

Correct Marks : 5 Wrong Marks : 1

Question Key Details :

Key	Value
Comprehension	MCQ

Which of the following elements are Not found in informal letters?

Choose from the options given below:

1. Signature
2. Date
3. Salutation or Courteous greeting
4. Subject

Options :

- 485584132785. 1
- 485584132786. 2
- 485584132787. 3
- 485584132788. 4

Question Number : 33 Question Id : 48558433198 Question Type : MCQ Option Shuffling : No Is Question Mandatory : No Calculator : None Response Time : N.A Think Time : N.A Minimum Instruction Time : 0

Correct Marks : 5 Wrong Marks : 1

Question Key Details :

Key	Value
Comprehension	MCQ

Which of the following pair of words are not homonyms:

1. cite, site
2. pallet, palate
3. burn, burden
4. hear, here

Options :

- 485584132789. 1
- 485584132790. 2
- 485584132791. 3
- 485584132792. 4

Question Number : 34 Question Id : 48558433199 Question Type : MCQ Option Shuffling : No Is Question Mandatory : No Calculator : None Response Time : N.A Think Time : N.A Minimum Instruction Time : 0

Correct Marks : 5 Wrong Marks : 1

Question Key Details :

Key	Value
Comprehension	MCQ

Rearrange the following jumbled phrases into a coherent sentence

- A. A given trait whenever they are present
- B. Among heterogenous organisms,
- C. Meaning that they result in the expression of
- D. Some adults are dominant

- 1. ACDB
- 2. BDCA
- 3. DACB
- 4. CDAB

Options :

- 485584132793. 1
- 485584132794. 2
- 485584132795. 3
- 485584132796. 4

Question Number : 35 Question Id : 48558433200 Question Type : MCQ Option Shuffling : No Is Question Mandatory : No Calculator : None Response Time : N.A Think Time : N.A Minimum Instruction Time : 0

Correct Marks : 5 Wrong Marks : 1

Question Key Details :

Key	Value
Comprehension	MCQ

Rearrange the following jumbled phrases into a coherent sentence

- A. as Annu is senior than Susan
- B. though Susan had worked there before Annu
- C. Annu received the promotion instead of Susan
- D. in age

- 1. ABCD
- 2. DBAC
- 3. CADB
- 4. BACD

Options :

- 485584132797. 1
- 485584132798. 2
- 485584132799. 3
- 485584132800. 4

Question Number : 36 Question Id : 48558433201 Question Type : MCQ Option Shuffling : No Is Question Mandatory : No Calculator : None Response Time : N.A Think Time : N.A Minimum Instruction Time : 0

Correct Marks : 5 Wrong Marks : 1

Question Key Details :

Key	Value
Comprehension	MCQ

The given sentence is divided into three parts. Scan it carefully for errors and choose the most appropriate options

A) I found less | B) books in the| C) library than that

1. A only
2. B and C
3. C only
4. No error

Options :

- 485584132801. 1
- 485584132802. 2
- 485584132803. 3
- 485584132804. 4

Question Number : 37 Question Id : 48558433202 Question Type : MCQ Option Shuffling : No Is Question Mandatory : No Calculator : None Response Time : N.A Think Time : N.A Minimum Instruction Time : 0

Correct Marks : 5 Wrong Marks : 1

Question Key Details :

Key	Value
Comprehension	MCQ

The given sentence is divided into tissue parts. scan it carefully for errors and choose the most appropriate options

- A) Few persons
- B) are free
- C) from worries

1. A only
2. A and C
3. C only
4. No errors

Options :

- 485584132805. 1
- 485584132806. 2
- 485584132807. 3
- 485584132808. 4

Question Number : 38 Question Id : 48558433203 Question Type : MCQ Option Shuffling : No Is Question Mandatory : No Calculator : None Response Time : N.A Think Time : N.A Minimum Instruction Time : 0

Correct Marks : 5 Wrong Marks : 1

Question Key Details :

Key	Value
Comprehension	MCQ

Identify the option that demonstrates the most appropriate usage of an adjective clause.

1. She is senior and most intelligent than her friend.
2. Meera adopted a Two-years- old girl.
3. This tree is to big as the other tree.
4. She took a six-week course.

Options :

- 485584132809. 1
- 485584132810. 2
- 485584132811. 3
- 485584132812. 4

Question Number : 39 Question Id : 48558433204 Question Type : MCQ Option Shuffling : No Is Question Mandatory : No Calculator : None Response Time : N.A Think Time : N.A Minimum Instruction Time : 0

Correct Marks : 5 Wrong Marks : 1

Question Key Details :

Key	Value
Comprehension	MCQ

Choose the options which demonstrates an appropriate usage of articles.

1. She would make a better statesman than philosopher
2. She would make better statesman than philosopher
3. She would make a better statesman than a philosopher
4. She would makes better statesman than a philosopher

Options :

- 485584132813. 1
- 485584132814. 2
- 485584132815. 3
- 485584132816. 4

Question Number : 40 Question Id : 48558433205 Question Type : MCQ Option Shuffling : No Is Question Mandatory : No Calculator : None Response Time : N.A Think Time : N.A Minimum Instruction Time : 0

Correct Marks : 5 Wrong Marks : 1

Question Key Details :

Key	Value
Comprehension	MCQ

Which of the following sentences demonstrate appropriate use(s) of asterisks

1. The third and fourth chapter will be tested in exam
2. The third and fourth chapters will be tested in the exam
3. Third and fourth chapter will be tested in the exam
4. The third and fourth chapters will be tested in the exam

Options :

- 485584132817. 1
- 485584132818. 2
- 485584132819. 3
- 485584132820. 4

Question Number : 41 Question Id : 48558433206 Question Type : MCQ Option Shuffling : No Is Question Mandatory : No Calculator : None Response Time : N.A Think Time : N.A Minimum Instruction Time : 0

Correct Marks : 5 Wrong Marks : 1

Question Key Details :

Key	Value
Comprehension	MCQ

Fill in the blanks with the most appropriate adverbs.

Does she sing well? _____ she does

1. Yes
2. of course
3. I think
4. Certainly

Options :

- 485584132821. 1
- 485584132822. 2
- 485584132823. 3
- 485584132824. 4

Question Number : 42 Question Id : 48558433207 Question Type : MCQ Option Shuffling : No Is Question Mandatory : No Calculator : None Response Time : N.A Think Time : N.A Minimum Instruction Time : 0

Correct Marks : 5 Wrong Marks : 1

Question Key Details :

Key	Value
Comprehension	MCQ

Read the following sentence care. Some part of the sentence may have an error. Choose the most appropriate options.

Mumbai (A) | is New York (B) | of India (c)

1. A
2. B
3. C
4. No error

Options :

485584132825. 1
485584132826. 2
485584132827. 3
485584132828. 4

Question Number : 43 Question Id : 48558433208 Question Type : MCQ Option Shuffling : No Is Question Mandatory : No Calculator : None Response Time : N.A Think Time : N.A Minimum Instruction Time : 0

Correct Marks : 5 Wrong Marks : 1

Question Key Details :

Key	Value
Comprehension	MCQ

Match List I with List II

LIST I		LIST II	
A.	Wherefore	I.	adverb of reason
B.	seriously	II.	adverb of degree
C.	probably	III.	interrogative adverb
D.	consequently	IV.	adverb of affirmation

Choose the correct answer from the options given below:

1. A-IV, B-III, C-II, D-I
2. A-III, B-I, C-IV, D-II
3. A-III, B-II, C-IV, D-I
4. A-I, B-II, C-IV, D-IV

Options :

485584132829. 1
485584132830. 2
485584132831. 3
485584132832. 4

Question Number : 44 Question Id : 48558433209 Question Type : MCQ Option Shuffling : No Is Question Mandatory : No Calculator : None Response Time : N.A Think Time : N.A Minimum Instruction Time : 0

Correct Marks : 5 Wrong Marks : 1

Question Key Details :

Key	Value
Comprehension	MCQ

Rearrange the following sentences to form a coherent paragraph

- A. Because, if the manager's subordinates are inefficient and ineffective and are not helped to increase their efficiency and effectiveness, the task may not be achieved.
- B. This may be just as true as the responsibility for achieving prescribed tasks.
- C. If it is achieved at too great a cost, or at the risk of other effects many of which are less obvious.
- D. It is often said that one of the prime responsibilities of a manager is the training and development of staff

- 1. CBAD
- 2. DBAC
- 3. DCAB
- 4. CDAB

Options :

- 485584132833. 1
- 485584132834. 2
- 485584132835. 3
- 485584132836. 4

Question Number : 45 Question Id : 48558433210 Question Type : MCQ Option Shuffling : No Is Question Mandatory : No Calculator : None Response Time : N.A Think Time : N.A Minimum Instruction Time : 0

Correct Marks : 5 Wrong Marks : 1

Question Key Details :

Key	Value
Comprehension	MCQ

Choose the most appropriate antonym of the given word: UPROARIOUS

- 1. calm
- 2. Tumultuous
- 3. bleating
- 4. upright

Options :

- 485584132837. 1
- 485584132838. 2
- 485584132839. 3
- 485584132840. 4

Question Number : 46 Question Id : 48558433211 Question Type : MCQ Option Shuffling : No Is Question Mandatory : No Calculator : None Response Time : N.A Think Time : N.A Minimum Instruction Time : 0

Correct Marks : 5 Wrong Marks : 1

Question Key Details :

Key	Value
-----	-------

Match List I with List II Antonyms

LIST I		LIST II	
A.	luminous	I.	initially
B.	eventually	II.	supercilious
C.	subservient	III.	unholy
D.	sacrosant	IV.	dark

Choose the correct answer from the options given below:

1. A-IV, B-III, C-II, D-I
2. A-III, B-II, C-I, D-IV
3. A-IV, B-I, C-II, D-III
4. A-I, B-III, C-II, D-IV

Options :

485584132841. 1
 485584132842. 2
 485584132843. 3
 485584132844. 4

Question Number : 47 Question Id : 48558433212 Question Type : MCQ Option Shuffling : No Is Question Mandatory : No Calculator : None Response Time : N.A Think Time : N.A Minimum Instruction Time : 0

Correct Marks : 5 Wrong Marks : 1

Question Key Details :

Key	Value
Comprehension	MCQ

Fill in the blanks with the most appropriate prepositions

I prefer tea _____ coffee

1. with
2. to
3. over
4. of

Options :

485584132845. 1
 485584132846. 2
 485584132847. 3
 485584132848. 4

Question Number : 48 Question Id : 48558433213 Question Type : MCQ Option Shuffling : No Is Question Mandatory : No Calculator : None Response Time : N.A Think Time : N.A Minimum Instruction Time : 0

Correct Marks : 5 Wrong Marks : 1

Question Key Details :

Key	Value
Comprehension	MCQ

The soldiers were _____ war

1. at
2. in
3. on
4. of

Options :

485584132849. 1
 485584132850. 2
 485584132851. 3
 485584132852. 4

Question Number : 49 Question Id : 48558433214 Question Type : MCQ Option Shuffling : No Is Question Mandatory : No Calculator : None Response Time : N.A Think Time : N.A Minimum Instruction Time : 0

Correct Marks : 5 Wrong Marks : 1

Question Key Details :

Key	Value
Comprehension	MCQ

Match the phrasal words with most appropriate meaning

LIST I		LIST II	
A.	draw up	I.	make someone sad or depressed
B.	drag out	II.	prepare and write something
C.	drag down	III.	use a resource to do something
D.	draw on	IV.	make something longer than necessary

Choose the correct answer from the options given below:

1. A-II, B-IV, C-I, D-III
2. A-I, B-II, C-III, D-IV
3. A-II, B-IV, C-III, D-I
4. A-I, B-II, C-IV, D-III

Options :

485584132853. 1
 485584132854. 2
 485584132855. 3
 485584132856. 4

Question Number : 50 Question Id : 48558433215 Question Type : MCQ Option Shuffling : No Is Question Mandatory : No Calculator : None Response Time : N.A Think Time : N.A Minimum Instruction Time : 0

Correct Marks : 5 Wrong Marks : 1

Question Key Details :

Key	Value
Comprehension	MCQ

Match the idioms with most appropriate meaning

LIST I		LIST II	
A.	fish out of water	I.	good luck
B.	break a leg	II.	someone about whom very little is known
C.	leave in the lurch	III.	to be put in an unfamiliar situation
D.	dark horse	IV.	abandon someone in a difficult situation

Choose the correct answer from the options given below:

1. A-III, B-IV, C-II, D-I
2. A-III, B-I, C-IV, D-II
3. A-I, B-III, C-IV, D-II
4. A-II, B-I, C-I, D-IV

Options :

485584132857. 1
 485584132858. 2
 485584132859. 3
 485584132860. 4

Hindi

Group Number :	2
Group Id :	485584740
Group Maximum Duration :	45
Group Minimum Duration :	45
Show Attended Group? :	No
Edit Attended Group? :	No
Break time :	0
Group Marks :	200
Is this Group for Examiner? :	No
Examiner permission :	Cant View
Show Progress Bar? :	No

Hindi

Section Id :	485584854
Section Number :	1
Section type :	Online
Mandatory or Optional :	Mandatory
Number of Questions :	50
Number of Questions to be attempted :	40
Section Marks :	200
Enable Mark as Answered Mark for Review and Clear Response :	Yes

Maximum Instruction Time :	0
Sub-Section Number :	1
Sub-Section Id :	4855842406
Question Shuffling Allowed :	No
Is Section Default? :	null

Question Number : 51 Question Id : 48558433266 Question Type : MCQ Option Shuffling : No Is Question Mandatory : No Calculator : None Response Time : N.A Think Time : N.A Minimum Instruction Time : 0

Correct Marks : 5 Wrong Marks : 1

Question Key Details :

Key	Value
Comprehension	Comp1

प्रस्तुत गद्यांश के आधार पर पूछे गए प्रश्नों के उत्तर के रूप में सही विकल्प का चयन करें।

भारत में गुरु-शिष्य संबंध का वह भव्य रूप आज साधुओं, पहलवानों और संगीतकारों में ही थोड़ा-बहुत ही सही, पाया जाता है। भगवान रामकृष्ण बरसों योग्य शिष्य को पाने के लिए प्रार्थना करते रहे। उनके जैसे व्यक्ति को भी उत्तम शिष्य के लिए रो-रोकर प्रार्थना करनी पड़ी। इसी से समझा जा सकता है कि एक गुरु के लिए गुरु उत्तम शिष्य कितना मँहगा और महत्त्वपूर्ण है। संतानहीन रहना उन्हें दुःख नहीं देता पर बगैर शिष्य के रहने के लिए वे एकदम तैयार नहीं होते। इस संबंध में भगवान ईसा का एक कथन सदा स्मरणीय है। उन्होंने कहा था - "मेरे अनुयायी लोग मुझसे कहीं अधिक महान हैं और उनकी जूतियाँ होने की योग्यता भी मुझमें नहीं है। यही बात है, गाँधी जी बनने की क्षमता जिनमें है उन्हें गाँधी जी अच्छे लगते हैं और वे ही उनके पीछे चलते भी हैं। विवेकानन्द की रचना सिर्फ उन्हें पसंद आएगी जिनमें विवेकानन्द बनने की अद्भुत शक्ति निहित है।"

भारत में गुरु-शिष्य संबंध आज थोड़ा बहुत कहाँ पाया जाता है?

1. पंडितों में
2. बौद्धों
3. संगीतकारों में
4. रामकृष्ण परमहंस में

Options :

485584133061. 1
485584133062. 2
485584133063. 3
485584133064. 4

Question Number : 52 Question Id : 48558433267 Question Type : MCQ Option Shuffling : No Is Question Mandatory : No Calculator : None Response Time : N.A Think Time : N.A Minimum Instruction Time : 0

Correct Marks : 5 Wrong Marks : 1

Question Key Details :

Key	Value
Comprehension	Comp1

प्रस्तुत गद्यांश के आधार पर पूछे गए प्रश्नों के उत्तर के रूप में सही विकल्प का चयन करें।

भारत में गुरु-शिष्य संबंध का वह भव्य रूप आज साधुओं, पहलवानों और संगीतकारों में ही थोड़ा-बहुत ही सही, पाया जाता है। भगवान रामकृष्ण बरसों योग्य शिष्य को पाने के लिए प्रार्थना करते रहे। उनके जैसे व्यक्ति को भी उत्तम शिष्य के लिए रो-रोकर प्रार्थना करनी पड़ी। इसी से समझा जा सकता है कि एक गुरु के लिए गुरु उत्तम शिष्य कितना मँहगा और महत्त्वपूर्ण है। संतानहीन रहना उन्हें दुःख नहीं देता पर बगैर शिष्य के रहने के लिए वे एकदम तैयार नहीं होते। इस संबंध में भगवान ईसा का एक कथन सदा स्मरणीय है। उन्होंने कहा था - "मेरे अनुयायी लोग मुझसे कहीं अधिक महान हैं और उनकी जूतियाँ होने की योग्यता भी मुझमें नहीं है। यही बात है, गाँधी जी बनने की क्षमता जिनमें है उन्हें गाँधी जी अच्छे लगते हैं और वे ही उनके पीछे चलते भी हैं। विवेकानन्द की रचना सिर्फ उन्हें पसंद आएगी जिनमें विवेकानन्द बनने की अद्भुत शक्ति निहित है।"

"मेरे अनुयायी लोग मुझसे कहीं अधिक महान हैं।" यह कथन किसका है?

1. स्वामी विवेकानंद
2. ईसा मसीह
3. गाँधी जी
4. रामकृष्ण परमहंस

Options :

485584133065. 1
485584133066. 2
485584133067. 3
485584133068. 4

Question Number : 53 Question Id : 48558433268 Question Type : MCQ Option Shuffling : No Is Question Mandatory : No Calculator : None Response Time : N.A Think Time : N.A Minimum Instruction Time : 0

Correct Marks : 5 Wrong Marks : 1

Question Key Details :

Key	Value
Comprehension	Comp1

प्रस्तुत गद्यांश के आधार पर पूछे गए प्रश्नों के उत्तर के रूप में सही विकल्प का चयन करें।

भारत में गुरु-शिष्य संबंध का वह भव्य रूप आज साधुओं, पहलवानों और संगीतकारों में ही थोड़ा-बहुत ही सही, पाया जाता है। भगवान रामकृष्ण बरसों योग्य शिष्य को पाने के लिए प्रार्थना करते रहे। उनके जैसे व्यक्ति को भी उत्तम शिष्य के लिए रो-रोकर प्रार्थना करनी पड़ी। इसी से समझा जा सकता है कि एक गुरु के लिए गुरु उत्तम शिष्य कितना मँहगा और महत्त्वपूर्ण है। संतानहीन रहना उन्हें दुःख नहीं देता पर बगैर शिष्य के रहने के लिए वे एकदम तैयार नहीं होते। इस संबंध में भगवान ईसा का एक कथन सदा स्मरणीय है। उन्होंने कहा था - "मेरे अनुयायी लोग मुझसे कहीं अधिक महान हैं और उनकी जूतियाँ होने की योग्यता भी मुझमें नहीं है। यही बात है, गाँधी जी बनने की क्षमता जिनमें है उन्हें गाँधी जी अच्छे लगते हैं और वे ही उनके पीछे चलते भी हैं। विवेकानन्द की रचना सिर्फ उन्हें पसंद आएगी जिनमें विवेकानन्द बनने की अद्भुत शक्ति निहित है।"

गुरु के साथ संबद्ध युग्म का चयन करें -

1. चेला
2. शिष्य
3. छात्र
4. विवेकानंद

Options :

485584133069. 1
485584133070. 2
485584133071. 3
485584133072. 4

Question Number : 54 Question Id : 48558433269 Question Type : MCQ Option Shuffling : No Is Question Mandatory : No Calculator : None Response Time : N.A Think Time : N.A Minimum Instruction Time : 0

Correct Marks : 5 Wrong Marks : 1

Question Key Details :

Key	Value
Comprehension	Comp1

प्रस्तुत गद्यांश के आधार पर पूछे गए प्रश्नों के उत्तर के रूप में सही विकल्प का चयन करें।

भारत में गुरु-शिष्य संबंध का वह भव्य रूप आज साधुओं, पहलवानों और संगीतकारों में ही थोड़ा-बहुत ही सही, पाया जाता है। भगवान रामकृष्ण बरसों योग्य शिष्य को पाने के लिए प्रार्थना करते रहे। उनके जैसे व्यक्ति को भी उत्तम शिष्य के लिए रो-रोकर प्रार्थना करनी पड़ी। इसी से समझा जा सकता है कि एक गुरु के लिए गुरु उत्तम शिष्य कितना मँहगा और महत्त्वपूर्ण है। संतानहीन रहना उन्हें दुःख नहीं देता पर बगैर शिष्य के रहने के लिए वे एकदम तैयार नहीं होते। इस संबंध में भगवान ईसा का एक कथन सदा स्मरणीय है। उन्होंने कहा था - "मेरे अनुयायी लोग मुझसे कहीं अधिक महान हैं और उनकी जूतियाँ होने की योग्यता भी मुझमें नहीं है। यही बात है, गाँधी जी बनने की क्षमता जिनमें है उन्हें गाँधी जी अच्छे लगते हैं और वे ही उनके पीछे चलते भी हैं। विवेकानन्द की रचना सिर्फ उन्हें पसंद आएगी जिनमें विवेकानन्द बनने की अद्भुत शक्ति निहित है।"

एक उत्तम गुरु किसके बिना रहने के लिए एकदम तैयार नहीं होता?

1. संतान के बिना
2. शिष्य के बिना
3. अनुयायी के बिना
4. शिक्षा के बिना

Options :

485584133073. 1
485584133074. 2
485584133075. 3
485584133076. 4

Question Number : 55 Question Id : 48558433270 Question Type : MCQ Option Shuffling : No Is Question Mandatory : No Calculator : None Response Time : N.A Think Time : N.A Minimum Instruction Time : 0

Correct Marks : 5 Wrong Marks : 1

Question Key Details :

Key	Value
Comprehension	Comp1

प्रस्तुत गद्यांश के आधार पर पूछे गए प्रश्नों के उत्तर के रूप में सही विकल्प का चयन करें।

भारत में गुरु-शिष्य संबंध का वह भव्य रूप आज साधुओं, पहलवानों और संगीतकारों में ही थोड़ा-बहुत ही सही, पाया जाता है। भगवान रामकृष्ण बरसों योग्य शिष्य को पाने के लिए प्रार्थना करते रहे। उनके जैसे व्यक्ति को भी उत्तम शिष्य के लिए रो-रोकर प्रार्थना करनी पड़ी। इसी से समझा जा सकता है कि एक गुरु के लिए गुरु उत्तम शिष्य कितना मँहगा और महत्त्वपूर्ण है। संतानहीन रहना उन्हें दुःख नहीं देता पर बगैर शिष्य के रहने के लिए वे एकदम तैयार नहीं होते। इस संबंध में भगवान ईसा का एक कथन सदा स्मरणीय है। उन्होंने कहा था - "मेरे अनुयायी लोग मुझसे कहीं अधिक महान हैं और उनकी जूतियाँ होने की योग्यता भी मुझमें नहीं है। यही बात है, गाँधी जी बनने की क्षमता जिनमें है उन्हें गाँधी जी अच्छे लगते हैं और वे ही उनके पीछे चलते भी हैं। विवेकानन्द की रचना सिर्फ उन्हें पसंद आएगी जिनमें विवेकानन्द बनने की अद्भुत शक्ति निहित है।"

किस गुरु ने योग्य शिष्य पाने के लिए बरसों प्रार्थना की -

1. विवेकानंद
2. भगवान ईसा
3. गाँधी जी
4. भगवान रामकृष्ण

Options :

485584133077. 1
485584133078. 2
485584133079. 3
485584133080. 4

Sub-Section Number : 2
Sub-Section Id : 4855842407
Question Shuffling Allowed : No
Is Section Default? : null

Question Number : 56 Question Id : 48558433271 Question Type : MCQ Option Shuffling : No Is Question Mandatory : No Calculator : None Response Time : N.A Think Time : N.A Minimum Instruction Time : 0

Correct Marks : 5 Wrong Marks : 1

Question Key Details :

Key	Value
Comprehension	Comp2

प्रस्तुत पद्यांश के आधार पर पूछे गए प्रश्नों के उत्तर के रूप में सही विकल्प का चयन करें।

भारत माता ग्रामवासिनी।
खेतों में फैला है श्यामल
धूल-भरा मैला-सा आँचल,
गंगा-यमुना में आँसू जल,
मिट्टी की प्रतिमा उदासिनी।

दैन्य-जड़ित अपलक नत-चितवन,
अधरों में चिर-नीरव रोदन,
युग-युग के तम से विषण्ण मन,
वह अपने घर में प्रवासिनी।

इनमें से कौन-सा शब्द तत्सम नहीं है?

1. जल
2. खेत
3. प्रतिमा
4. तम

Options :

485584133081. 1
485584133082. 2
485584133083. 3
485584133084. 4

Question Number : 57 Question Id : 48558433272 Question Type : MCQ Option Shuffling : No Is Question Mandatory : No Calculator : None Response Time : N.A Think Time : N.A Minimum Instruction Time : 0

Correct Marks : 5 Wrong Marks : 1

Question Key Details :

Key	Value
Comprehension	Comp2

प्रस्तुत पद्यांश के आधार पर पूछे गए प्रश्नों के उत्तर के रूप में सही विकल्प का चयन करें।

भारत माता ग्रामवासिनी।
खेतों में फैला है श्यामल
धूल-भरा मैला-सा आँचल,
गंगा-यमुना में आँसू जल,
मिट्टी की प्रतिमा उदासिनी।

दैन्य-जड़ित अपलक नत-चितवन,
अधरों में चिर-नीरव रोदन,
युग-युग के तम से विषण्ण मन,
वह अपने घर में प्रवासिनी।

पद्यांश में प्रयुक्त 'मैला-सा' में कौन-सा अलंकार है?

1. अनुप्रास
2. यमक
3. उपमा
4. उत्प्रेक्षा

Options :

485584133085. 1
485584133086. 2
485584133087. 3
485584133088. 4

Question Number : 58 Question Id : 48558433273 Question Type : MCQ Option Shuffling : No Is Question Mandatory : No Calculator : None Response Time : N.A Think Time : N.A Minimum Instruction Time : 0

Correct Marks : 5 Wrong Marks : 1

Question Key Details :

Key	Value
Comprehension	Comp2

प्रस्तुत पद्यांश के आधार पर पूछे गए प्रश्नों के उत्तर के रूप में सही विकल्प का चयन करें।

भारत माता ग्रामवासिनी।
खेतों में फैला है श्यामल
धूल-भरा मैला-सा आँचल,
गंगा-यमुना में आँसू जल,
मिट्टी की प्रतिमा उदासिनी।

दैन्य-जड़ित अपलक नत-चितवन,
अधरों में चिर-नीरव रोदन,
युग-युग के तम से विषण्ण मन,
वह अपने घर में प्रवासिनी।

अपने ही घर में किसे प्रवासिनी कहा गया है?

1. मजदूरों को
2. भारत माता को
3. गंगा-यमुना नदी को
4. ग्राम वासियों को

Options :

485584133089. 1
485584133090. 2
485584133091. 3
485584133092. 4

Question Number : 59 Question Id : 48558433274 Question Type : MCQ Option Shuffling : No Is Question Mandatory : No Calculator : None Response Time : N.A Think Time : N.A Minimum Instruction Time : 0

Correct Marks : 5 Wrong Marks : 1

Question Key Details :

Key	Value
Comprehension	Comp2

प्रस्तुत पद्यांश के आधार पर पूछे गए प्रश्नों के उत्तर के रूप में सही विकल्प का चयन करें।

भारत माता ग्रामवासिनी।
खेतों में फैला है श्यामल
धूल-भरा मैला-सा आँचल,
गंगा-यमुना में आँसू जल,
मिट्टी की प्रतिमा उदासिनी।

दैन्य-जड़ित अपलक नत-चितवन,
अधरों में चिर-नीरव रोदन,
युग-युग के तम से विषण्ण मन,
वह अपने घर में प्रवासिनी।

इसमें किस तरह की स्थिति का वर्णन है?

1. भारत के गाँवों के प्रति उदासीनता का
2. भारत के ग्रामीण जीवन के वैभव का
3. आत्मनिर्भर भारत का
4. ग्रामीण पर्व-त्योहार के उल्लास का

Options :

485584133093. 1
485584133094. 2
485584133095. 3
485584133096. 4

Question Number : 60 Question Id : 48558433275 Question Type : MCQ Option Shuffling : No Is Question Mandatory : No Calculator : None Response Time : N.A Think Time : N.A Minimum Instruction Time : 0

Correct Marks : 5 Wrong Marks : 1

Question Key Details :

Key	Value
Comprehension	Comp2

प्रस्तुत पद्यांश के आधार पर पूछे गए प्रश्नों के उत्तर के रूप में सही विकल्प का चयन करें।

भारत माता ग्रामवासिनी।
खेतों में फैला है श्यामल
धूल-भरा मैला-सा आँचल,
गंगा-यमुना में आँसू जल,
मिट्टी की प्रतिमा उदासिनी।

दैन्य-जड़ित अपलक नत-चितवन,
अधरों में चिर-नीरव रोदन,
युग-युग के तम से विषण्ण मन,
वह अपने घर में प्रवासिनी।

'मिट्टी की प्रतिमा' किसे कहा गया है?

1. ग्रामवासिनी भारत माता को
2. शहरी जीवन को
3. गंगा-यमुना को
4. खेत-खलिहानों को

Options :

485584133097. 1
485584133098. 2
485584133099. 3
485584133100. 4

Sub-Section Number :

3

Sub-Section Id :

4855842408

Question Shuffling Allowed :

No

Is Section Default? :

null

**Question Number : 61 Question Id : 48558433276 Question Type : MCQ Option Shuffling : No Is Question Mandatory :
No Calculator : None Response Time : N.A Think Time : N.A Minimum Instruction Time : 0**

Correct Marks : 5 Wrong Marks : 1

Question Key Details :

Key	Value
Comprehension	Comp3

प्रस्तुत गद्यांश के आधार पर पूछे गए प्रश्नों के उत्तर के रूप में सही विकल्प का चयन करें।

रंगनाथ को अब तक शिवपालगंज में रहते हुए छः महीने हो गए थे। उसकी तन्दुरुस्ती अच्छी हो गई थी। ज़बान खराब हो गई थी। सही मौके पर चुप हो जाने और गलत जगह पर जोश दिखाने की आदत पड़ने लगी थी। इस झगड़े में वह कहीं नहीं है, यह मजबूरी उसके मन में हीनता-भाव पैदा करने लगी थी। परिस्थिति के खिलाफ़ उसके मन में स्वाभाविक रोष भी पैदा होता था, पर वह हर हिन्दुस्तानी के रोष की तरह बहस-मुबाहसे के रास्ते निकल जाता था और बचा-खुचा अच्छे खाने-पीने से दब जाता था। पर आज इस हीनता की अनुभूति और रोष के भाव ने मिलकर उसे न जाने कैसा बना दिया कि उसने डपटना शुरू कर दिया। उसने बात डपट से शुरू की और डपट ही पर जाकर छोड़ी। जो भी हो, उसकी बात का अर्थ यही निकला कि 'इस परिस्थिति का डटकर विरोध किया जाना चाहिए-खन्ना मास्टर को पीछे नहीं हटना चाहिए', अन्याय से समझौता नहीं करना चाहिए,' कहते-कहते रंगनाथ को ऐसा लगा कि वह अंग्रेज़ी पढ़े-लिखे देसी आदमी की तरह टूटी-फूटी ज़बान में कोई धार्मिक ग्रन्थ बाँच रहा है। वह चुपचाप हो गया।

रंगनाथ के संबंध में निम्नलिखित में से कौन-से कथन सत्य हैं?

- A. सबसे गले मिलता था
- B. सही मौके पर चुप हो जाता था
- C. सही मौके पर जोश दिखाता था
- D. उसकी भाषा बहुत शालीन और प्रेममयी हो गयी थी
- E. गलत जगह पर जोश दिखाता था

नीचे दिए गए विकल्पों में से सही उत्तर चुनिए:

1. केवल A, B
2. केवल C, D
3. केवल B, D, E
4. केवल B, E

Options :

- 485584133101. 1
- 485584133102. 2
- 485584133103. 3
- 485584133104. 4

Question Number : 62 Question Id : 48558433277 Question Type : MCQ Option Shuffling : No Is Question Mandatory : No Calculator : None Response Time : N.A Think Time : N.A Minimum Instruction Time : 0

Correct Marks : 5 Wrong Marks : 1

Question Key Details :

Key	Value
Comprehension	Comp3

प्रस्तुत गद्यांश के आधार पर पूछे गए प्रश्नों के उत्तर के रूप में सही विकल्प का चयन करें।

रंगनाथ को अब तक शिवपालगंज में रहते हुए छः महीने हो गए थे। उसकी तन्दुरुस्ती अच्छी हो गई थी। ज़बान खराब हो गई थी। सही मौके पर चुप हो जाने और गलत जगह पर जोश दिखाने की आदत पड़ने लगी थी। इस झगड़े में वह कहीं नहीं है, यह मजबूरी उसके मन में हीनता-भाव पैदा करने लगी थी। परिस्थिति के खिलाफ़ उसके मन में स्वाभाविक रोष भी पैदा होता था, पर वह हर हिन्दुस्तानी के रोष की तरह बहस-मुबाहसे के रास्ते निकल जाता था और बचा-खुचा अच्छे खाने-पीने से दब जाता था। पर आज इस हीनता की अनुभूति और रोष के भाव ने मिलकर उसे न जाने कैसा बना दिया कि उसने डपटना शुरू कर दिया। उसने बात डपट से शुरू की और डपट ही पर जाकर छोड़ी। जो भी हो, उसकी बात का अर्थ यही निकला कि 'इस परिस्थिति का डटकर विरोध किया जाना चाहिए-खन्ना मास्टर को पीछे नहीं हटना चाहिए', अन्याय से समझौता नहीं करना चाहिए,' कहते-कहते रंगनाथ को ऐसा लगा कि वह अंग्रेज़ी पढ़े-लिखे देसी आदमी की तरह टूटी-फूटी ज़बान में कोई धार्मिक ग्रन्थ बाँच रहा है। वह चुपचाप हो गया।

रंगनाथ के मन में किसके खिलाफ़ स्वाभाविक रोष था?

1. अंग्रेज़ी के खिलाफ़
2. हीनताबोध के खिलाफ़
3. परिस्थिति के खिलाफ़
4. अन्याय के खिलाफ़

Options :

485584133105. 1
485584133106. 2
485584133107. 3
485584133108. 4

Question Number : 63 Question Id : 48558433278 Question Type : MCQ Option Shuffling : No Is Question Mandatory : No Calculator : None Response Time : N.A Think Time : N.A Minimum Instruction Time : 0

Correct Marks : 5 Wrong Marks : 1

Question Key Details :

Key	Value
Comprehension	Comp3

प्रस्तुत गद्यांश के आधार पर पूछे गए प्रश्नों के उत्तर के रूप में सही विकल्प का चयन करें।

रंगनाथ को अब तक शिवपालगंज में रहते हुए छः महीने हो गए थे। उसकी तन्दुरुस्ती अच्छी हो गई थी। ज़बान खराब हो गई थी। सही मौके पर चुप हो जाने और गलत जगह पर जोश दिखाने की आदत पड़ने लगी थी। इस झगड़े में वह कहीं नहीं है, यह मजबूरी उसके मन में हीनता-भाव पैदा करने लगी थी। परिस्थिति के खिलाफ़ उसके मन में स्वाभाविक रोष भी पैदा होता था, पर वह हर हिन्दुस्तानी के रोष की तरह बहस-मुबाहसे के रास्ते निकल जाता था और बचा-खुचा अच्छे खाने-पीने से दब जाता था। पर आज इस हीनता की अनुभूति और रोष के भाव ने मिलकर उसे न जाने कैसा बना दिया कि उसने डपटना शुरू कर दिया। उसने बात डपट से शुरू की और डपट ही पर जाकर छोड़ी। जो भी हो, उसकी बात का अर्थ यही निकला कि 'इस परिस्थिति का डटकर विरोध किया जाना चाहिए-खन्ना मास्टर को पीछे नहीं हटना चाहिए', अन्याय से समझौता नहीं करना चाहिए,' कहते-कहते रंगनाथ को ऐसा लगा कि वह अंग्रेज़ी पढ़े-लिखे देसी आदमी की तरह टूटी-फूटी ज़बान में कोई धार्मिक ग्रन्थ बाँच रहा है। वह चुपचाप हो गया।

रंगनाथ पिछले छः महीने से कहाँ रह रहा था?

1. शिवपाल गंज
2. गोपाल गंज
3. खन्ना मास्टर के साथ
4. अपने मित्र के साथ

Options :

485584133109. 1
485584133110. 2
485584133111. 3
485584133112. 4

Question Number : 64 Question Id : 48558433279 Question Type : MCQ Option Shuffling : No Is Question Mandatory : No Calculator : None Response Time : N.A Think Time : N.A Minimum Instruction Time : 0

Correct Marks : 5 Wrong Marks : 1

Question Key Details :

Key	Value
Comprehension	Comp3

प्रस्तुत गद्यांश के आधार पर पूछे गए प्रश्नों के उत्तर के रूप में सही विकल्प का चयन करें।

रंगनाथ को अब तक शिवपालगंज में रहते हुए छः महीने हो गए थे। उसकी तन्दुरुस्ती अच्छी हो गई थी। ज़बान खराब हो गई थी। सही मौके पर चुप हो जाने और गलत जगह पर जोश दिखाने की आदत पड़ने लगी थी। इस झगड़े में वह कहीं नहीं है, यह मजबूरी उसके मन में हीनता-भाव पैदा करने लगी थी। परिस्थिति के खिलाफ़ उसके मन में स्वाभाविक रोष भी पैदा होता था, पर वह हर हिन्दुस्तानी के रोष की तरह बहस-मुबाहसे के रास्ते निकल जाता था और बचा-खुचा अच्छे खाने-पीने से दब जाता था। पर आज इस हीनता की अनुभूति और रोष के भाव ने मिलकर उसे न जाने कैसा बना दिया कि उसने डपटना शुरू कर दिया। उसने बात डपट से शुरू की और डपट ही पर जाकर छोड़ी। जो भी हो, उसकी बात का अर्थ यही निकला कि 'इस परिस्थिति का डटकर विरोध किया जाना चाहिए-खन्ना मास्टर को पीछे नहीं हटना चाहिए', अन्याय से समझौता नहीं करना चाहिए,' कहते-कहते रंगनाथ को ऐसा लगा कि वह अंग्रेज़ी पढ़े-लिखे देसी आदमी की तरह टूटी-फूटी ज़बान में कोई धार्मिक ग्रन्थ बाँच रहा है। वह चुपचाप हो गया।

रंगनाथ का बचा-खुचा रोष किस तरह दब जाता था?

1. बात करने से
2. बहस-मुबाहसे से
3. खाने-पीने से
4. डपटने से

Options :

485584133113. 1
485584133114. 2
485584133115. 3
485584133116. 4

Question Number : 65 Question Id : 48558433280 Question Type : MCQ Option Shuffling : No Is Question Mandatory : No Calculator : None Response Time : N.A Think Time : N.A Minimum Instruction Time : 0

Correct Marks : 5 Wrong Marks : 1

Question Key Details :

Key	Value
Comprehension	Comp3

प्रस्तुत गद्यांश के आधार पर पूछे गए प्रश्नों के उत्तर के रूप में सही विकल्प का चयन करें।

रंगनाथ को अब तक शिवपालगंज में रहते हुए छः महीने हो गए थे। उसकी तन्दुरुस्ती अच्छी हो गई थी। ज़बान खराब हो गई थी। सही मौके पर चुप हो जाने और गलत जगह पर जोश दिखाने की आदत पड़ने लगी थी। इस झगड़े में वह कहीं नहीं है, यह मजबूरी उसके मन में हीनता-भाव पैदा करने लगी थी। परिस्थिति के खिलाफ़ उसके मन में स्वाभाविक रोष भी पैदा होता था, पर वह हर हिन्दुस्तानी के रोष की तरह बहस-मुबाहसे के रास्ते निकल जाता था और बचा-खुचा अच्छे खाने-पीने से दब जाता था। पर आज इस हीनता की अनुभूति और रोष के भाव ने मिलकर उसे न जाने कैसा बना दिया कि उसने डपटना शुरू कर दिया। उसने बात डपट से शुरू की और डपट ही पर जाकर छोड़ी। जो भी हो, उसकी बात का अर्थ यही निकला कि 'इस परिस्थिति का डटकर विरोध किया जाना चाहिए-खन्ना मास्टर को पीछे नहीं हटना चाहिए', अन्याय से समझौता नहीं करना चाहिए,' कहते-कहते रंगनाथ को ऐसा लगा कि वह अंग्रेज़ी पढ़े-लिखे देसी आदमी की तरह टूटी-फूटी ज़बान में कोई धार्मिक ग्रन्थ बाँच रहा है। वह चुपचाप हो गया।

निम्नलिखित में से तत्सम शब्द का चयन करें -

1. डपटना
2. ज़बान
3. जोश
4. अन्याय

Options :

485584133117. 1

485584133118. 2

485584133119. 3

485584133120. 4

Sub-Section Number :

4

Sub-Section Id :

4855842409

Question Shuffling Allowed :

Yes

Is Section Default? :

null

Question Number : 66 Question Id : 48558433281 Question Type : MCQ Option Shuffling : No Is Question Mandatory : No Calculator : None Response Time : N.A Think Time : N.A Minimum Instruction Time : 0

Correct Marks : 5 Wrong Marks : 1

Question Key Details :

Key	Value
Comprehension	MCQ

'चारपाई' में कौन-सा समास है

1. अव्ययी भाव
2. तत्पुरुष
3. द्विगु
4. कर्मधारय

Options :

485584133121. 1
485584133122. 2
485584133123. 3
485584133124. 4

Question Number : 67 Question Id : 48558433282 Question Type : MCQ Option Shuffling : No Is Question Mandatory : No Calculator : None Response Time : N.A Think Time : N.A Minimum Instruction Time : 0

Correct Marks : 5 Wrong Marks : 1

Question Key Details :

Key	Value
Comprehension	MCQ

सूची I का सूची II से मिलान कीजिए

सूची I		सूची II	
A.	फूल-सा चेहरा	I.	यमक
B.	चरण-कमल	II.	उपमा
C.	चारु चंद्र की चंचल किरणें	III.	रूपक
D.	काली घटा का घमंड घटा	IV.	अनुप्रास

निम्नलिखित विकल्पों में से सही उत्तर का चयन कीजिए :

1. A-II, B-III, C-IV, D-I
2. A-IV, B-II, C-III, D-I
3. A-I, B-III, C-II, D-IV
4. A-III, B-I, C-II, D-IV

Options :

485584133125. 1
485584133126. 2
485584133127. 3
485584133128. 4

Question Number : 68 Question Id : 48558433283 Question Type : MCQ Option Shuffling : No Is Question Mandatory : No Calculator : None Response Time : N.A Think Time : N.A Minimum Instruction Time : 0

Correct Marks : 5 Wrong Marks : 1

Question Key Details :

Key	Value
Comprehension	MCQ

जहाँ एक या एकाधिक वर्णों की आवृत्ति बार-बार हो वहाँ अलंकार होता है।

1. यमक
2. रूपक
3. श्लेष
4. अनुप्रास

Options :

485584133129. 1
485584133130. 2
485584133131. 3
485584133132. 4

Question Number : 69 Question Id : 48558433284 Question Type : MCQ Option Shuffling : No Is Question Mandatory : No Calculator : None Response Time : N.A Think Time : N.A Minimum Instruction Time : 0

Correct Marks : 5 Wrong Marks : 1

Question Key Details :

Key	Value
Comprehension	MCQ

सूची I का सूची II से मिलान कीजिए

सूची I		सूची II	
A.	भयानक रस	I.	भय
B.	रौद्र रस	II.	हास
C.	वीर रस	III.	उत्साह
D.	हास्य रस	IV.	क्रोध

निम्नलिखित विकल्पों में से सही उत्तर का चयन कीजिए :

1. A-IV, B-III, C-I, D-II
2. A-I, B-IV, C-III, D-II
3. A-I, B-II, C-III, D-IV
4. A-IV, B-I, C-II, D-III

Options :

485584133133. 1
485584133134. 2
485584133135. 3
485584133136. 4

Question Number : 70 Question Id : 48558433285 Question Type : MCQ Option Shuffling : No Is Question Mandatory : No Calculator : None Response Time : N.A Think Time : N.A Minimum Instruction Time : 0

Correct Marks : 5 Wrong Marks : 1

Question Key Details :

Key	Value
Comprehension	MCQ

'महात्मा' शब्द का विलोम है-

1. परमात्मा
2. देवात्मा
3. दुरात्मा
4. हुतात्मा

Options :

485584133137. 1
485584133138. 2
485584133139. 3
485584133140. 4

Question Number : 71 Question Id : 48558433286 Question Type : MCQ Option Shuffling : No Is Question Mandatory : No Calculator : None Response Time : N.A Think Time : N.A Minimum Instruction Time : 0

Correct Marks : 5 Wrong Marks : 1

Question Key Details :

Key	Value
Comprehension	MCQ

सूची I का सूची II से मिलान कीजिए

सूची I		सूची II	
A.	अनुग्रह	I.	अत्यल्प
B.	अत्यधिक	II.	विक्षत
C.	अक्षत	III.	विग्रह
D.	अधम	IV.	उत्तम

निम्नलिखित विकल्पों में से सही उत्तर का चयन कीजिए :

1. A-IV, B-II, C-I, D-III
2. A-III, B-I, C-II, D-IV
3. A-III, B-I, C-IV, D-II
4. A-II, B-III, C-I, D-IV

Options :

485584133141. 1
485584133142. 2
485584133143. 3

485584133144. 4

Question Number : 72 Question Id : 48558433287 Question Type : MCQ Option Shuffling : No Is Question Mandatory : No Calculator : None Response Time : N.A Think Time : N.A Minimum Instruction Time : 0

Correct Marks : 5 Wrong Marks : 1

Question Key Details :

Key	Value
Comprehension	MCQ

विद्वान का स्त्रीलिंग क्या है ?

1. विद्वता
2. विद्वषी
3. विद्वान्नी
4. विमाता

Options :

485584133145. 1
485584133146. 2
485584133147. 3
485584133148. 4

Question Number : 73 Question Id : 48558433288 Question Type : MCQ Option Shuffling : No Is Question Mandatory : No Calculator : None Response Time : N.A Think Time : N.A Minimum Instruction Time : 0

Correct Marks : 5 Wrong Marks : 1

Question Key Details :

Key	Value
Comprehension	MCQ

'सखी' शब्द का बहुवचन है -

1. सखियाँ
2. सखी
3. सखा
4. बंधु

Options :

485584133149. 1
485584133150. 2
485584133151. 3
485584133152. 4

Question Number : 74 Question Id : 48558433289 Question Type : MCQ Option Shuffling : No Is Question Mandatory : No Calculator : None Response Time : N.A Think Time : N.A Minimum Instruction Time : 0

Correct Marks : 5 Wrong Marks : 1

Question Key Details :

Key	Value
-----	-------

अनुपस्थिति, गैर हाज़िरी, अभाव निम्न शब्दों का अगला पर्यायवाची कौन-सा है।

1. अविद्यमानता
2. विद्यमानता
3. न होना
4. अनुचित

Options :

485584133153. 1
485584133154. 2
485584133155. 3
485584133156. 4

Question Number : 75 Question Id : 48558433290 Question Type : MCQ Option Shuffling : No Is Question Mandatory : No Calculator : None Response Time : N.A Think Time : N.A Minimum Instruction Time : 0

Correct Marks : 5 Wrong Marks : 1

Question Key Details :

Key	Value
Comprehension	MCQ

'घर' का पर्यायवाची है-

- A. आलय
- B. ग्राम
- C. सदन
- D. मोहल्ला
- E. निकेतन

नीचे दिए गए विकल्पों में से सही उत्तर का चयन कीजिए :

1. केवल A, B
2. केवल C, D
3. केवल A, C, E
4. केवल B, D, E

Options :

485584133157. 1
485584133158. 2
485584133159. 3
485584133160. 4

Question Number : 76 Question Id : 48558433291 Question Type : MCQ Option Shuffling : No Is Question Mandatory : No Calculator : None Response Time : N.A Think Time : N.A Minimum Instruction Time : 0

Correct Marks : 5 Wrong Marks : 1

Question Key Details :

Key	Value
Comprehension	MCQ

सूची I का सूची II से मिलान कीजिए

सूची I		सूची II	
A.	जो कल्पना से परे हो	I.	कटुभाषी
B.	जो कटु बोलता हो	II.	कल्पनातीत
C.	भूख से व्याकुल	III.	निराश्रय
D.	जिसका कोई आश्रय न हो	IV.	क्षुधातुर

निम्नलिखित विकल्पों में से सही उत्तर का चयन कीजिए :

1. A-I, B-II, C-III, D-IV
2. A-IV, B-II, C-III, D-I
3. A-I, B-II, C-IV, D-III
4. A-II, B-I, C-IV, D-III

Options :

485584133161. 1
485584133162. 2
485584133163. 3
485584133164. 4

Question Number : 77 Question Id : 48558433292 Question Type : MCQ Option Shuffling : No Is Question Mandatory : No Calculator : None Response Time : N.A Think Time : N.A Minimum Instruction Time : 0

Correct Marks : 5 Wrong Marks : 1

Question Key Details :

Key	Value
Comprehension	MCQ

जो यान जल में चलता हो -

1. जलज
2. जलयान
3. जलचर
4. जलवायु

Options :

485584133165. 1
485584133166. 2
485584133167. 3
485584133168. 4

Question Number : 78 Question Id : 48558433293 Question Type : MCQ Option Shuffling : No Is Question Mandatory : No Calculator : None Response Time : N.A Think Time : N.A Minimum Instruction Time : 0

Correct Marks : 5 Wrong Marks : 1

Question Key Details :

Key	Value
Comprehension	MCQ

'जड़' का अनेकार्थी शब्द नहीं है -

1. निर्जीव
2. मूर्ख
3. जरा
4. स्थिर

Options :

485584133169. 1
485584133170. 2
485584133171. 3
485584133172. 4

Question Number : 79 Question Id : 48558433294 Question Type : MCQ Option Shuffling : No Is Question Mandatory : No Calculator : None Response Time : N.A Think Time : N.A Minimum Instruction Time : 0

Correct Marks : 5 Wrong Marks : 1

Question Key Details :

Key	Value
Comprehension	MCQ

इनमें से कौन-से शब्द 'द्विज' के अनेकार्थी नहीं हैं: ___

- A. चाल
- B. पर्वत
- C. पक्षी
- D. मुद्रा
- E. ब्राह्मण

नीचे दिए गए विकल्पों में से सही उत्तर चुनिए:

1. केवल A, B, C
2. केवल A, B, D
3. केवल C, D, E
4. केवल B, C, D

Options :

485584133173. 1
485584133174. 2
485584133175. 3
485584133176. 4

Question Number : 80 Question Id : 48558433295 Question Type : MCQ Option Shuffling : No Is Question Mandatory : No Calculator : None Response Time : N.A Think Time : N.A Minimum Instruction Time : 0

Correct Marks : 5 Wrong Marks : 1

Question Key Details :

Key	Value
Comprehension	MCQ

आज हमारे घर का _____ प्रवेश है - वाक्य में उपयुक्त शब्द भरें -

1. ग्रह
2. गृह
3. गृह का
4. घर में

Options :

485584133177. 1
485584133178. 2
485584133179. 3
485584133180. 4

Question Number : 81 Question Id : 48558433296 Question Type : MCQ Option Shuffling : No Is Question Mandatory : No Calculator : None Response Time : N.A Think Time : N.A Minimum Instruction Time : 0

Correct Marks : 5 Wrong Marks : 1

Question Key Details :

Key	Value
Comprehension	MCQ

सूची I का सूची II से मिलान कीजिए

सूची I		सूची II	
A.	तत्सम	I.	रेल
B.	तद्भव	II.	कौआ
C.	देशज	III.	नृत्य
D.	विदेशज	IV.	खिड़की

निम्नलिखित विकल्पों में से सही उत्तर का चयन कीजिए :

1. A-I, B-III, C-IV, D-II
2. C-III, B-II, C-IV, D-I
3. A-II, B-I, C-IV, D-III
4. A-III, B-II, C-I, D-IV

Options :

485584133181. 1
485584133182. 2
485584133183. 3

Question Number : 82 Question Id : 48558433297 Question Type : MCQ Option Shuffling : No Is Question Mandatory : No Calculator : None Response Time : N.A Think Time : N.A Minimum Instruction Time : 0

Correct Marks : 5 Wrong Marks : 1

Question Key Details :

Key	Value
Comprehension	MCQ

सूची I का सूची II से मिलान कीजिए

सूची I		सूची II	
A.	अग्नि	I.	देशज
B.	डॉक्टर	II.	तद्भव
C.	लोटा	III.	तत्सम
D.	हाथ	IV.	विदेशी

निम्नलिखित विकल्पों में से सही उत्तर का चयन कीजिए :

1. A-IV, B-II, C-III, D-I
2. A-III, B-IV, C-I, D-II
3. A-I, B-III, C-II, D-IV
4. A-IV, B-I, C-II, D-III

Options :

485584133185. 1
485584133186. 2
485584133187. 3
485584133188. 4

Question Number : 83 Question Id : 48558433298 Question Type : MCQ Option Shuffling : No Is Question Mandatory : No Calculator : None Response Time : N.A Think Time : N.A Minimum Instruction Time : 0

Correct Marks : 5 Wrong Marks : 1

Question Key Details :

Key	Value
Comprehension	MCQ

फणीश्वरनाथ रेणु का जन्म कहाँ हुआ था?

1. इलाहाबाद
2. वाराणसी
3. पूर्णिया
4. मेरठ

Options :

485584133189. 1

485584133190. 2
485584133191. 3
485584133192. 4

Question Number : 84 Question Id : 48558433299 Question Type : MCQ Option Shuffling : No Is Question Mandatory : No Calculator : None Response Time : N.A Think Time : N.A Minimum Instruction Time : 0

Correct Marks : 5 Wrong Marks : 1

Question Key Details :

Key	Value
Comprehension	MCQ

'कामायनी' के रचनाकार निम्न में से कौन है?

- A. प्रेमचन्द
- B. तुलसीदास
- C. जयशंकर प्रसाद
- D. महादेवी वर्मा

नीचे दिए गए विकल्पों में से सही उत्तर चुनिए:

- 1. A
- 2. B
- 3. C
- 4. D

Options :

485584133193. 1
485584133194. 2
485584133195. 3
485584133196. 4

Question Number : 85 Question Id : 48558433300 Question Type : MCQ Option Shuffling : No Is Question Mandatory : No Calculator : None Response Time : N.A Think Time : N.A Minimum Instruction Time : 0

Correct Marks : 5 Wrong Marks : 1

Question Key Details :

Key	Value
Comprehension	MCQ

प्रधानाचार्य को पत्र लिखते समय अभिनिवेदन के लिए क्या प्रयोग होगा?

- 1. आपका बच्चा
- 2. आपका आज्ञाकारी छात्र
- 3. आज्ञाकारी
- 4. आपका छात्र

Options :

485584133197. 1
485584133198. 2

485584133199. 3

485584133200. 4

Question Number : 86 Question Id : 48558433301 Question Type : MCQ Option Shuffling : No Is Question Mandatory : No Calculator : None Response Time : N.A Think Time : N.A Minimum Instruction Time : 0

Correct Marks : 5 Wrong Marks : 1

Question Key Details :

Key	Value
Comprehension	MCQ

निम्नलिखित में से 'दूध के दाँत न टूटना' मुहावरे का सही अर्थ है-

1. जोर की भूख लगना
2. ज्ञानहानी होना
3. प्रभाव उत्पन्न करना
4. हार मान लेना

Options :

485584133201. 1

485584133202. 2

485584133203. 3

485584133204. 4

Question Number : 87 Question Id : 48558433302 Question Type : MCQ Option Shuffling : No Is Question Mandatory : No Calculator : None Response Time : N.A Think Time : N.A Minimum Instruction Time : 0

Correct Marks : 5 Wrong Marks : 1

Question Key Details :

Key	Value
Comprehension	MCQ

सूची I का सूची II से मिलान कीजिए

सूची I		सूची II	
A.	आम के आम गुठलियों के दाम	I.	एकदम अनपढ़
B.	घर का भेदी लंका ढाए	II.	मन शुद्ध होने पर घर ही तीर्थ
C.	काला अक्षर भेस बराबर	III.	दोहरा लाभ
D.	मनचंगा तो कठौती में गंगा	IV.	आपसी फूट से हानि होना

निम्नलिखित विकल्पों में से सही उत्तर का चयन कीजिए :

1. A-IV, B-II, C-III, D-I
2. A-I, B-II, C-IV, D-III
3. A-III, B-IV, C-I, D-II
4. A-II, B-III, C-IV, D-I

Options :

485584133205. 1
485584133206. 2
485584133207. 3
485584133208. 4

Question Number : 88 Question Id : 48558433303 Question Type : MCQ Option Shuffling : No Is Question Mandatory : No Calculator : None Response Time : N.A Think Time : N.A Minimum Instruction Time : 0

Correct Marks : 5 Wrong Marks : 1

Question Key Details :

Key	Value
Comprehension	MCQ

'अत्यंत' में कौन-सा उपसर्ग है ?

1. अ
2. अंत
3. अति
4. यंत

Options :

485584133209. 1
485584133210. 2
485584133211. 3
485584133212. 4

Question Number : 89 Question Id : 48558433304 Question Type : MCQ Option Shuffling : No Is Question Mandatory : No Calculator : None Response Time : N.A Think Time : N.A Minimum Instruction Time : 0

Correct Marks : 5 Wrong Marks : 1

Question Key Details :

Key	Value
Comprehension	MCQ

निम्न में से कौन-सा शब्द प्रत्यय से युक्त है:

1. बेहद
2. प्रगति
3. घमुक्कड़
4. उपचार

Options :

485584133213. 1
485584133214. 2
485584133215. 3
485584133216. 4

Question Number : 90 Question Id : 48558433305 Question Type : MCQ Option Shuffling : No Is Question Mandatory : No Calculator : None Response Time : N.A Think Time : N.A Minimum Instruction Time : 0

Correct Marks : 5 Wrong Marks : 1

Question Key Details :

Key	Value
Comprehension	MCQ

मृत्यु के समान निश्चित कुछ नहीं है - वाक्य में विशेषण है :

1. मृत्यु
2. समान
3. निश्चित
4. कुछ नहीं

Options :

485584133217. 1
485584133218. 2
485584133219. 3
485584133220. 4

Question Number : 91 Question Id : 48558433306 Question Type : MCQ Option Shuffling : No Is Question Mandatory : No Calculator : None Response Time : N.A Think Time : N.A Minimum Instruction Time : 0

Correct Marks : 5 Wrong Marks : 1

Question Key Details :

Key	Value
Comprehension	MCQ

सूची I का सूची II से मिलान कीजिए

सूची I		सूची II	
A.	अंश	I.	साम्प्रदायिक
B.	सर्वजन	II.	आंशिक
C.	सम्प्रदाय	III.	सार्वजनिक
D.	उद्योग	IV.	औद्योगिक

निम्नलिखित विकल्पों में से सही उत्तर का चयन कीजिए :

1. A-II, B-III, C-I, D-IV
2. A-I, B-II, C-III, D-IV
3. A-II, B-IV, C-I, D-III
4. A-IV, B-II, C-I, D-III

Options :

485584133221. 1
485584133222. 2
485584133223. 3
485584133224. 4

Question Number : 92 Question Id : 48558433307 Question Type : MCQ Option Shuffling : No Is Question Mandatory : No Calculator : None Response Time : N.A Think Time : N.A Minimum Instruction Time : 0

Correct Marks : 5 Wrong Marks : 1

Question Key Details :

Key	Value
Comprehension	MCQ

दिल को कल क्या पड़ी, बात तो बिगड़ गई- वाक्य में कौन-सा कारक है ?

1. कर्म कारक
2. सम्प्रदान कारक
3. अपादान कारक
4. संबंध कारक

Options :

485584133225. 1
485584133226. 2
485584133227. 3
485584133228. 4

Question Number : 93 Question Id : 48558433308 Question Type : MCQ Option Shuffling : No Is Question Mandatory : No Calculator : None Response Time : N.A Think Time : N.A Minimum Instruction Time : 0

Correct Marks : 5 Wrong Marks : 1

Question Key Details :

Key	Value
Comprehension	MCQ

सूची I का सूची II से मिलान कीजिए

सूची I		सूची II	
A.	राजा ने मंत्री को आदेश दिया	I.	अपादान कारक
B.	स्टेशन से ट्रेन छूट गई	II.	संबंध कारक
C.	मेरी माँ ने सबको बुलाया है	III.	कर्म कारक
D.	श्रेष्ठ ने मोहित को पुस्तक दी	IV.	सम्प्रदान कारक

निम्नलिखित विकल्पों में से सही उत्तर का चयन कीजिए :

1. A-I, B-II, C-III, D-IV
2. A-III, B-I, C-II, D-IV
3. A-III, B-II, C-I, D-IV
4. A-II, B-I, C-III, D-IV

Options :

485584133229. 1
485584133230. 2
485584133231. 3
485584133232. 4

Question Number : 94 Question Id : 48558433309 Question Type : MCQ Option Shuffling : No Is Question Mandatory : No Calculator : None Response Time : N.A Think Time : N.A Minimum Instruction Time : 0

Correct Marks : 5 Wrong Marks : 1

Question Key Details :

Key	Value
Comprehension	MCQ

इनमें से कौन-सा क्रिया का भेद नहीं है ?

1. सकर्मक
2. प्रेरणार्थक
3. अकर्मक
4. निश्चयवाचक

Options :

485584133233. 1
485584133234. 2
485584133235. 3
485584133236. 4

Question Number : 95 Question Id : 48558433310 Question Type : MCQ Option Shuffling : No Is Question Mandatory : No Calculator : None Response Time : N.A Think Time : N.A Minimum Instruction Time : 0

Correct Marks : 5 Wrong Marks : 1

Question Key Details :

Key	Value
Comprehension	MCQ

कर्म के आधार पर क्रिया के कितने भेद हैं -

1. एक
2. दो
3. तीन
4. चार

Options :

485584133237. 1
485584133238. 2
485584133239. 3
485584133240. 4

Question Number : 96 Question Id : 48558433311 Question Type : MCQ Option Shuffling : No Is Question Mandatory : No Calculator : None Response Time : N.A Think Time : N.A Minimum Instruction Time : 0

Correct Marks : 5 Wrong Marks : 1

Question Key Details :

Key	Value
Comprehension	MCQ

'मैं जितना खाता हूँ, उतना मोटा हूँ' वाक्य में अव्यय बताइये-

- A. जितना
- B. खाता
- C. उतना
- D. मोटा
- E. मैं

नीचे दिए गए विकल्पों में से सही उत्तर का चयन कीजिए :

1. केवल A, B
2. केवल A, D
3. केवल A, D
4. केवल D, E

Options :

485584133241. 1
485584133242. 2
485584133243. 3
485584133244. 4

Question Number : 97 Question Id : 48558433312 Question Type : MCQ Option Shuffling : No Is Question Mandatory : No Calculator : None Response Time : N.A Think Time : N.A Minimum Instruction Time : 0

Correct Marks : 5 Wrong Marks : 1

Question Key Details :

Key	Value
Comprehension	MCQ

'उपर्युक्त' का सही संधि विच्छेद है।

1. उपरि+उक्त
2. उपर+उक्त
3. उपः+युक्त
4. उपर्य+उक्त

Options :

485584133245. 1
485584133246. 2
485584133247. 3
485584133248. 4

Question Number : 98 Question Id : 48558433313 Question Type : MCQ Option Shuffling : No Is Question Mandatory : No Calculator : None Response Time : N.A Think Time : N.A Minimum Instruction Time : 0

Correct Marks : 5 Wrong Marks : 1

Question Key Details :

Key	Value
Comprehension	MCQ

'दिक्+अंबर' की संधि है-

1. दिक्अंबर
2. दिक्बंर
3. दिगंबर
4. दिगम्बर

Options :

485584133249. 1
485584133250. 2
485584133251. 3
485584133252. 4

Question Number : 99 Question Id : 48558433314 Question Type : MCQ Option Shuffling : No Is Question Mandatory : No Calculator : None Response Time : N.A Think Time : N.A Minimum Instruction Time : 0

Correct Marks : 5 Wrong Marks : 1

Question Key Details :

Key	Value
Comprehension	MCQ

ऐसी कौन-सी रचनाएँ, जिसके स्मरण हो जाने पर तार्किक शक्ति बढ़ जाती है-

1. छंदोबद्ध
2. छंदोमुक्त
3. गेय
4. मात्रिक छंद

Options :

485584133253. 1
485584133254. 2
485584133255. 3
485584133256. 4

Question Number : 100 Question Id : 48558433315 Question Type : MCQ Option Shuffling : No Is Question Mandatory : No Calculator : None Response Time : N.A Think Time : N.A Minimum Instruction Time : 0

Correct Marks : 5 Wrong Marks : 1

Question Key Details :

Key	Value
Comprehension	MCQ

सूची I का सूची II से मिलान कीजिए

सूची I		सूची II	
A.	जनप्रिय	I.	द्विगु समास
B.	पंचामृत	II.	अव्ययी भाव
C.	यथाशक्ति	III.	तत्पुरुष समास
D.	दशानन	IV.	बहुव्रीहि

निम्नलिखित विकल्पों में से सही उत्तर का चयन कीजिए :

1. A-III, B-II, C-IV, D-I
2. A-III, B-I, C-II, D-IV
3. A-IV, B-III, C-I, D-II
4. A-II, B-I, C-III, D-IV

Options :

485584133257. 1
485584133258. 2
485584133259. 3
485584133260. 4

Assamese

Group Number :

3

Group Id :

485584741

Group Maximum Duration :	45
Group Minimum Duration :	45
Show Attended Group? :	No
Edit Attended Group? :	No
Break time :	0
Group Marks :	200
Is this Group for Examiner? :	No
Examiner permission :	Cant View
Show Progress Bar? :	No

Assamese

Section Id :	485584855
Section Number :	1
Section type :	Online
Mandatory or Optional :	Mandatory
Number of Questions :	50
Number of Questions to be attempted :	40
Section Marks :	200
Enable Mark as Answered Mark for Review and Clear Response :	Yes
Maximum Instruction Time :	0
Sub-Section Number :	1
Sub-Section Id :	4855842410
Question Shuffling Allowed :	No
Is Section Default? :	null
Sub-Section Number :	2
Sub-Section Id :	4855842411
Question Shuffling Allowed :	No
Is Section Default? :	null
Sub-Section Number :	3
Sub-Section Id :	4855842412
Question Shuffling Allowed :	No
Is Section Default? :	null
Sub-Section Number :	4
Sub-Section Id :	4855842413
Question Shuffling Allowed :	Yes
Is Section Default? :	null

Kannada

Group Number :	4
Group Id :	485584742
Group Maximum Duration :	45
Group Minimum Duration :	45
Show Attended Group? :	No
Edit Attended Group? :	No
Break time :	0
Group Marks :	200
Is this Group for Examiner? :	No
Examiner permission :	Cant View
Show Progress Bar? :	No

Kannada

Section Id :	485584856
Section Number :	1
Section type :	Online
Mandatory or Optional :	Mandatory
Number of Questions :	50
Number of Questions to be attempted :	40
Section Marks :	200
Enable Mark as Answered Mark for Review and Clear Response :	Yes
Maximum Instruction Time :	0
Sub-Section Number :	1
Sub-Section Id :	4855842414
Question Shuffling Allowed :	No
Is Section Default? :	null
Sub-Section Number :	2
Sub-Section Id :	4855842415
Question Shuffling Allowed :	No
Is Section Default? :	null
Sub-Section Number :	3
Sub-Section Id :	4855842416
Question Shuffling Allowed :	No
Is Section Default? :	null
Sub-Section Number :	4
Sub-Section Id :	4855842417
Question Shuffling Allowed :	Yes
Is Section Default? :	null

Japanese

Group Number :	5
Group Id :	485584743
Group Maximum Duration :	45
Group Minimum Duration :	45
Show Attended Group? :	No
Edit Attended Group? :	No
Break time :	0
Group Marks :	200
Is this Group for Examiner? :	No
Examiner permission :	Cant View
Show Progress Bar? :	No

Japanese

Section Id :	485584857
Section Number :	1
Section type :	Online
Mandatory or Optional :	Mandatory
Number of Questions :	50
Number of Questions to be attempted :	40
Section Marks :	200

Enable Mark as Answered Mark for Review and Clear Response : Yes
Maximum Instruction Time : 0
Sub-Section Number : 1
Sub-Section Id : 4855842418
Question Shuffling Allowed : No
Is Section Default? : null
Sub-Section Number : 2
Sub-Section Id : 4855842419
Question Shuffling Allowed : No
Is Section Default? : null
Sub-Section Number : 3
Sub-Section Id : 4855842420
Question Shuffling Allowed : No
Is Section Default? : null
Sub-Section Number : 4
Sub-Section Id : 4855842421
Question Shuffling Allowed : Yes
Is Section Default? : null

Entrepreneurship

Group Number : 6
Group Id : 485584744
Group Maximum Duration : 45
Group Minimum Duration : 45
Show Attended Group? : No
Edit Attended Group? : No
Break time : 0
Group Marks : 200
Is this Group for Examiner? : No
Examiner permission : Cant View
Show Progress Bar? : No

Entrepreneurship

Section Id : 485584858
Section Number : 1
Section type : Online
Mandatory or Optional : Mandatory
Number of Questions : 50
Number of Questions to be attempted : 40
Section Marks : 200
Enable Mark as Answered Mark for Review and Clear Response : Yes
Maximum Instruction Time : 0
Sub-Section Number : 1
Sub-Section Id : 4855842422
Question Shuffling Allowed : Yes
Is Section Default? : null

Question Number : 101 Question Id : 48558433466 Question Type : MCQ Option Shuffling : No Is Question Mandatory : No Calculator : None Response Time : N.A Think Time : N.A Minimum Instruction Time : 0 Correct Marks : 5 Wrong Marks : 1

Question Key Details :

Key	Value
Comprehension	MCQ

Creativity process occurs in the following sequence:

- A. Illumination
- B. Preparation
- C. Verification
- D. Idea Germination
- E. Incubation

Choose the correct answer from the options given below:

- 1. B, A, D, C, E
- 2. D, B, E, A, C
- 3. B, D, A, E, C
- 4. A, C, D, B, E

Options :

- 485584133861. 1
- 485584133862. 2
- 485584133863. 3
- 485584133864. 4

Question Number : 101 Question Id : 48558433466 Question Type : MCQ Option Shuffling : No Is Question Mandatory : No Calculator : None Response Time : N.A Think Time : N.A Minimum Instruction Time : 0

Correct Marks : 5 Wrong Marks : 1

Question Key Details :

Key	Value
Comprehension	MCQ

सृजनात्मकता प्रक्रिया निम्न क्रम में होती है:

- A. प्रदीपन
- B. तैयारी
- C. सत्यापन
- D. विचार अंकुरण
- E. उद्भव

निम्नलिखित विकल्पों में से सही उत्तर का चयन कीजिए :

- 1. B, A, D, C, E
- 2. D, B, E, A, C
- 3. B, D, A, E, C
- 4. A, C, D, B, E

Options :

- 485584133861. 1

485584133862. 2
485584133863. 3
485584133864. 4

Question Number : 102 Question Id : 48558433467 Question Type : MCQ Option Shuffling : No Is Question Mandatory : No Calculator : None Response Time : N.A Think Time : N.A Minimum Instruction Time : 0

Correct Marks : 5 Wrong Marks : 1

Question Key Details :

Key	Value
Comprehension	MCQ

All ideas may not become a sound business opportunity. Therefore we need to assess the idea and opportunity by following a correct sequence. Rearrange the steps in the correct order.

- A. Level of operation
- B. Product identification
- C. Cost of production
- D. Competition
- E. Application and use

Choose the correct answer from the options given below:

- 1. B, A, D, C, E
- 2. B, E, A, C, D
- 3. C, A, B, E, D
- 4. B, E, A, D, C

Options :

485584133865. 1
485584133866. 2
485584133867. 3
485584133868. 4

Question Number : 102 Question Id : 48558433467 Question Type : MCQ Option Shuffling : No Is Question Mandatory : No Calculator : None Response Time : N.A Think Time : N.A Minimum Instruction Time : 0

Correct Marks : 5 Wrong Marks : 1

Question Key Details :

Key	Value
Comprehension	MCQ

सभी विचार एक अच्छा व्यवसायिक अवसर नहीं बन सकते। अतः हमें विचार और अवसर के निम्न प्रकार से आकलन की आवश्यकता होती है। चरणों को सही क्रम में व्यवस्थित करें।

- A. परिचालन का स्तर
- B. उत्पाद की पहचान
- C. उत्पादन की लागत
- D. प्रतियोगिता
- E. अनुप्रयोग और उपयोग

निम्नलिखित विकल्पों में से सही उत्तर का चयन कीजिए।

- 1. B, A, D, C, E
- 2. B, E, A, C, D
- 3. C, A, B, E, D
- 4. B, E, A, D, C

Options :

- 485584133865. 1
- 485584133866. 2
- 485584133867. 3
- 485584133868. 4

Question Number : 103 Question Id : 48558433468 Question Type : MCQ Option Shuffling : No Is Question Mandatory : No Calculator : None Response Time : N.A Think Time : N.A Minimum Instruction Time : 0

Correct Marks : 5 Wrong Marks : 1

Question Key Details :

Key	Value
Comprehension	MCQ

_____ are 'Convenient frames of reference for streamlining the process of generation of ideas'.

- 1. Reference fields
- 2. Idea generation
- 3. Idea fields
- 4. Product generation

Options :

- 485584133869. 1
- 485584133870. 2
- 485584133871. 3
- 485584133872. 4

Question Number : 103 Question Id : 48558433468 Question Type : MCQ Option Shuffling : No Is Question Mandatory : No Calculator : None Response Time : N.A Think Time : N.A Minimum Instruction Time : 0

Correct Marks : 5 Wrong Marks : 1

Question Key Details :

Key	Value
-----	-------

विचारों के सृजन की प्रक्रिया को व्यवस्थित करने हेतु संदर्भ के सुविधाजनक फ्रेम हैं।

1. संदर्भ क्षेत्र
2. विचार सृजन
3. विचार क्षेत्र
4. उत्पाद सृजन

Options :

485584133869. 1
485584133870. 2
485584133871. 3
485584133872. 4

Question Number : 104 Question Id : 48558433469 Question Type : MCQ Option Shuffling : No Is Question Mandatory : No Calculator : None Response Time : N.A Think Time : N.A Minimum Instruction Time : 0

Correct Marks : 5 Wrong Marks : 1

Question Key Details :

Key	Value
Comprehension	MCQ

While on a family outing to a nearby mall by the name of 'RB Mall', Mr. Harji saw that most people coming to the mall forgot their mask, and had to pay a fine ranging from ₹500 to ₹2000/-. So he decided to open a shop for selling mask at the mall entrance. Identify the trend:

1. Read Trend
2. See Trend
3. Watch Trend
4. Talk Trend

Options :

485584133873. 1
485584133874. 2
485584133875. 3
485584133876. 4

Question Number : 104 Question Id : 48558433469 Question Type : MCQ Option Shuffling : No Is Question Mandatory : No Calculator : None Response Time : N.A Think Time : N.A Minimum Instruction Time : 0

Correct Marks : 5 Wrong Marks : 1

Question Key Details :

Key	Value
Comprehension	MCQ

परिवार के साथ 'आर बी माल' घूमते समय श्रीमान हरजी ने देखा कि अधिकांश लोग माल में बिना मास्क के आ रहे हैं और उनको ₹500 से ₹2000 तक का जुर्माना भरना पड़ रहा है। अतः उन्होंने माल के प्रवेशद्वार पर मास्क बेचने की दुकान खोलने का निर्णय लिया। प्रवृत्ति की पहचान कीजिए।

1. पठन प्रवृत्ति
2. दृश्य प्रवृत्ति
3. निगरानी प्रवृत्ति
4. वाक प्रवृत्ति

Options :

485584133873. 1
485584133874. 2
485584133875. 3
485584133876. 4

Question Number : 105 Question Id : 48558433470 Question Type : MCQ Option Shuffling : No Is Question Mandatory : No Calculator : None Response Time : N.A Think Time : N.A Minimum Instruction Time : 0

Correct Marks : 5 Wrong Marks : 1

Question Key Details :

Key	Value
Comprehension	MCQ

'Mansukhbhai Prajapati thought of a non-stick pan made from clay and a clay refrigerator that works without electricity.' Which step of creative process is discussed above?

1. Preparation
2. Idea germination
3. Incubation
4. Illumination

Options :

485584133877. 1
485584133878. 2
485584133879. 3
485584133880. 4

Question Number : 105 Question Id : 48558433470 Question Type : MCQ Option Shuffling : No Is Question Mandatory : No Calculator : None Response Time : N.A Think Time : N.A Minimum Instruction Time : 0

Correct Marks : 5 Wrong Marks : 1

Question Key Details :

Key	Value
Comprehension	MCQ

'मनसुख भाई प्रजापति ने मिट्टी से बनी नॉन स्टिक कढ़ाई और बिना बिजली के चलने वाला मिट्टी का फ्रिज बनाने का सोचा।' यहां सृजनात्मक प्रक्रिया के कौन से चरण की चर्चा की गई है?

1. तैयारी
2. विचार अंकुरण
3. उद्भव
4. प्रदीपन

Options :

485584133877. 1
485584133878. 2
485584133879. 3
485584133880. 4

Question Number : 106 Question Id : 48558433471 Question Type : MCQ Option Shuffling : No Is Question Mandatory : No Calculator : None Response Time : N.A Think Time : N.A Minimum Instruction Time : 0

Correct Marks : 5 Wrong Marks : 1

Question Key Details :

Key	Value
Comprehension	MCQ

In which type of opportunity assessment step, you examine an idea through finding out whether the product is present in use and you may think of modifying it for the better use?

1. Level of operation
2. Cost
3. Application and use
4. Competition

Options :

485584133881. 1
485584133882. 2
485584133883. 3
485584133884. 4

Question Number : 106 Question Id : 48558433471 Question Type : MCQ Option Shuffling : No Is Question Mandatory : No Calculator : None Response Time : N.A Think Time : N.A Minimum Instruction Time : 0

Correct Marks : 5 Wrong Marks : 1

Question Key Details :

Key	Value
Comprehension	MCQ

अवसर आकलन चरण के किस प्रकार में आप वस्तु के वर्तमान में उपयोग में होने का पता लगाकर उसके बेहतर उपयोग के लिये उसमें फेरबदल करने हेतु विचार की जांच करते हैं?

1. परिचालन स्तर
2. लागत
3. अनुप्रयोग और उपयोग
4. प्रतियोगिता

Options :

485584133881. 1
485584133882. 2
485584133883. 3
485584133884. 4

Question Number : 107 Question Id : 48558433472 Question Type : MCQ Option Shuffling : No Is Question Mandatory : No Calculator : None Response Time : N.A Think Time : N.A Minimum Instruction Time : 0

Correct Marks : 5 Wrong Marks : 1

Question Key Details :

Key	Value
Comprehension	MCQ

Family dinner, Speciality Tourism, Career Counselling Centres and Ice-cream Parlours are a part of which idea field?

1. Creative Efforts
2. Trading related Ideas
3. Service Sector Ideas
4. Market Driven Ideas

Options :

485584133885. 1
485584133886. 2
485584133887. 3
485584133888. 4

Question Number : 107 Question Id : 48558433472 Question Type : MCQ Option Shuffling : No Is Question Mandatory : No Calculator : None Response Time : N.A Think Time : N.A Minimum Instruction Time : 0

Correct Marks : 5 Wrong Marks : 1

Question Key Details :

Key	Value
Comprehension	MCQ

पारिवारिक रात्रि भोजन, विशिष्ट पर्यटन, व्यवसायिक निर्देशन/परामर्श केंद्र तथा आइसक्रीम पार्लर किस विचार क्षेत्र के अंग हैं?

1. सृजनात्मक प्रयास
2. व्यापार संबंधी विचार
3. सेवा क्षेत्र विचार
4. बाजार प्रेरित विचार

Options :

485584133885. 1
485584133886. 2
485584133887. 3
485584133888. 4

Question Number : 108 Question Id : 48558433473 Question Type : MCQ Option Shuffling : No Is Question Mandatory : No Calculator : None Response Time : N.A Think Time : N.A Minimum Instruction Time : 0

Correct Marks : 5 Wrong Marks : 1

Question Key Details :

Key	Value
Comprehension	MCQ

Avantika did a course in food preservation and decided to set up her own business of food preservation, canning, freezing and pickling. Identify the type of natural resource used by her:

1. Flowers
2. Medicinal Herbs
3. Citrus and other fruits
4. Horticulture

Options :

485584133889. 1
485584133890. 2
485584133891. 3
485584133892. 4

Question Number : 108 Question Id : 48558433473 Question Type : MCQ Option Shuffling : No Is Question Mandatory : No Calculator : None Response Time : N.A Think Time : N.A Minimum Instruction Time : 0

Correct Marks : 5 Wrong Marks : 1

Question Key Details :

Key	Value
Comprehension	MCQ

अवन्तिका ने खाद्य परिरक्षण का एक कोर्स किया तथा अपना खाद्य परिरक्षण, डिब्बा बंदी, प्रशीतन तथा आचार बनाने का व्यवसाय स्थापित करने का निर्णय किया। उसके द्वारा प्रयुक्त प्राकृतिक संसाधन की पहचान करें।

1. फूल
2. जड़ी बूटियाँ
3. खट्टे फल व अन्य फल
4. बागवानी

Options :

485584133889. 1
485584133890. 2
485584133891. 3
485584133892. 4

Question Number : 109 Question Id : 48558433474 Question Type : MCQ Option Shuffling : No Is Question Mandatory : No Calculator : None Response Time : N.A Think Time : N.A Minimum Instruction Time : 0

Correct Marks : 5 Wrong Marks : 1

Question Key Details :

Key	Value
Comprehension	MCQ

Identify the term related with concept of "gain generated on an investment relative to the amount of money invested by the shareholder".

1. Returns on Investment
2. Capital Gain
3. Return on Equity
4. Economic Order Quantity

Options :

485584133893. 1
485584133894. 2
485584133895. 3
485584133896. 4

Question Number : 109 Question Id : 48558433474 Question Type : MCQ Option Shuffling : No Is Question Mandatory : No Calculator : None Response Time : N.A Think Time : N.A Minimum Instruction Time : 0

Correct Marks : 5 Wrong Marks : 1

Question Key Details :

Key	Value
Comprehension	MCQ

"अंशधारकों द्वारा निवेशित मुद्रा के सापेक्ष निवेश पर सृजित लाभ" की अवधारणा के साथ संबंधित शब्द की पहचान कीजिए।

1. निवेश पर प्रतिफल
2. पूंजीगत लाभ
3. इक्विटी पर प्रतिफल
4. आर्थिक ऑर्डर मात्रा

Options :

485584133893. 1
485584133894. 2
485584133895. 3
485584133896. 4

Question Number : 110 Question Id : 48558433475 Question Type : MCQ Option Shuffling : No Is Question Mandatory : No Calculator : None Response Time : N.A Think Time : N.A Minimum Instruction Time : 0

Correct Marks : 5 Wrong Marks : 1

Question Key Details :

Key	Value
Comprehension	MCQ

Shreya has prepared her business plan and is stuck at the marketing plan for her enterprise. Suggest correct steps to her for marketing plan.

- A. Business Situation Analysis
- B. Define marketing Strategy
- C. Conduct SWOT Analysis
- D. Identify the target Market
- E. Establish goals

Choose the correct answer from the options given below:

1. A—B—C—D—E
2. A—D—C—E—B
3. A—C—D—E—B
4. A—D—C—B—E

Options :

485584133897. 1
485584133898. 2
485584133899. 3
485584133900. 4

Question Number : 110 Question Id : 48558433475 Question Type : MCQ Option Shuffling : No Is Question Mandatory : No Calculator : None Response Time : N.A Think Time : N.A Minimum Instruction Time : 0

Correct Marks : 5 Wrong Marks : 1

Question Key Details :

Key	Value
-----	-------

श्रेया ने अपनी व्यवसायिक योजना बनाई, लेकिन वह अपने उद्यम के लिये विपणन योजना पर आकर रुक गयी। विपणन योजना हेतु सही चरणों का सुझाव दीजिए।

- व्यवसायिक स्थिति विश्लेषण
- विपणन रणनीति को परिभाषित करना
- SWOT विश्लेषण संचालित करना
- लक्षित बाजार की पहचान करना
- लक्ष्य स्थापित करना

निम्नलिखित विकल्पों में से सही उत्तर का चयन कीजिए।

- A—B—C—D—E
- A—D—C—E—B
- A—C—D—E—B
- A—D—C—B—E

Options :

485584133897. 1
485584133898. 2
485584133899. 3
485584133900. 4

Question Number : 111 Question Id : 48558433476 Question Type : MCQ Option Shuffling : No Is Question Mandatory : No Calculator : None Response Time : N.A Think Time : N.A Minimum Instruction Time : 0

Correct Marks : 5 Wrong Marks : 1

Question Key Details :

Key	Value
Comprehension	MCQ

"Thinking in advance, what is to be done, when it is to be done, how to be done and by whom it should be done," defines

- Problem Solving
- Decision Making
- Planning
- Spotting opportunity

Options :

485584133901. 1
485584133902. 2
485584133903. 3
485584133904. 4

Question Number : 111 Question Id : 48558433476 Question Type : MCQ Option Shuffling : No Is Question Mandatory : No Calculator : None Response Time : N.A Think Time : N.A Minimum Instruction Time : 0

Correct Marks : 5 Wrong Marks : 1

Question Key Details :

Key	Value
Comprehension	MCQ

"क्या किया जाना है, कब किया जाना है, कैसे किया जाना है तथा किसके द्वारा किया जाना है पहले ही सोच लेना" किसको परिभाषित करता है?

1. समस्या समाधान
2. निर्णय लेना
3. नियोजन
4. अवसर पता लगाना

Options :

485584133901. 1
485584133902. 2
485584133903. 3
485584133904. 4

Question Number : 112 Question Id : 48558433477 Question Type : MCQ Option Shuffling : No Is Question Mandatory : No Calculator : None Response Time : N.A Think Time : N.A Minimum Instruction Time : 0

Correct Marks : 5 Wrong Marks : 1

Question Key Details :

Key	Value
Comprehension	MCQ

'How do we get there' question in marketing plan doesn't discuss:

1. The specific marketing strategy that will be implemented
2. When it will occur ?
3. Who will be responsible for the monitoring of activities ?
4. What need it satisfies ?

Options :

485584133905. 1
485584133906. 2
485584133907. 3
485584133908. 4

Question Number : 112 Question Id : 48558433477 Question Type : MCQ Option Shuffling : No Is Question Mandatory : No Calculator : None Response Time : N.A Think Time : N.A Minimum Instruction Time : 0

Correct Marks : 5 Wrong Marks : 1

Question Key Details :

Key	Value
Comprehension	MCQ

"हम वहाँ कैसे पहुंचे" प्रश्न विपणन योजना में इनमें से किसकी चर्चा नहीं करता :

1. लागू की जाने वाली विशिष्ट विपणन योजना।
2. ऐसा कब होगा?
3. गतिविधियों की निगरानी के लिये कौन जवाबदेह होगा।
4. यह किस जरूरत को पूरा करेगा।

Options :

485584133905. 1
485584133906. 2
485584133907. 3
485584133908. 4

Question Number : 113 Question Id : 48558433478 Question Type : MCQ Option Shuffling : No Is Question Mandatory : No Calculator : None Response Time : N.A Think Time : N.A Minimum Instruction Time : 0

Correct Marks : 5 Wrong Marks : 1

Question Key Details :

Key	Value
Comprehension	MCQ

Raghav is the owner of a business. He wants to transfer his ownership to his daughter Poorvi. He can do this without taking permission from anyone if the business is a _____ (Fill in the blank.)

1. Partnership firm
2. Public limited company
3. Private limited company
4. Sole Proprietorship

Options :

485584133909. 1
485584133910. 2
485584133911. 3
485584133912. 4

Question Number : 113 Question Id : 48558433478 Question Type : MCQ Option Shuffling : No Is Question Mandatory : No Calculator : None Response Time : N.A Think Time : N.A Minimum Instruction Time : 0

Correct Marks : 5 Wrong Marks : 1

Question Key Details :

Key	Value
Comprehension	MCQ

राघव एक व्यवसाय का मालिक है। वह अपना स्वामित्व (मालिकाना हक) अपनी पुत्री पूर्वी को देना चाहता है। वह अन्य मालिकों की अनुमति के बिना ऐसा कर सकता है यदि व्यवसाय एक _____ है।

1. साझेदारी फर्म
2. सार्वजनिक लिमिटेड कंपनी
3. निजी लिमिटेड कंपनी
4. संयुक्त स्टॉक कंपनी

Options :

485584133909. 1
485584133910. 2
485584133911. 3
485584133912. 4

Question Number : 114 Question Id : 48558433479 Question Type : MCQ Option Shuffling : No Is Question Mandatory : No Calculator : None Response Time : N.A Think Time : N.A Minimum Instruction Time : 0

Correct Marks : 5 Wrong Marks : 1

Question Key Details :

Key	Value
Comprehension	MCQ

_____ element of business plan helps the entrepreneur to carefully evaluate and decide the legal structure of the organisation. Fill in the above blank with correct option:

1. Organisational plan
2. Marketing plan
3. Financial plan
4. Production plan

Options :

485584133913. 1
485584133914. 2
485584133915. 3
485584133916. 4

Question Number : 114 Question Id : 48558433479 Question Type : MCQ Option Shuffling : No Is Question Mandatory : No Calculator : None Response Time : N.A Think Time : N.A Minimum Instruction Time : 0

Correct Marks : 5 Wrong Marks : 1

Question Key Details :

Key	Value
Comprehension	MCQ

व्यवसायिक योजना का एक तत्व है जो संगठन की विधिक संरचना के ध्यान पूर्वक मूल्यांकन करने और निर्णय लेने में उद्यमी की सहायता करता है। उचित विकल्प से रिक्त स्थान भरें:

1. संगठनात्मक योजना
2. विपणन योजना
3. वित्तीय योजना
4. उत्पादन योजना

Options :

485584133913. 1
485584133914. 2
485584133915. 3
485584133916. 4

Question Number : 115 Question Id : 48558433480 Question Type : MCQ Option Shuffling : No Is Question Mandatory : No Calculator : None Response Time : N.A Think Time : N.A Minimum Instruction Time : 0

Correct Marks : 5 Wrong Marks : 1

Question Key Details :

Key	Value
Comprehension	MCQ

Mannat, a student of entrepreneurship decided to start her venture of manufacturing "Flood rescuing raft". For funding, she contacted one of the angel investors who suggested her to prepare a three minute summary of her business plan. Identify from the following options, the format of business plan suggested to Mannat, which is often used as a teaser to awaken the interest of potential funders, customers etc.

1. A well written presentation for external shareholders
2. An internal operational plan
3. A pitch deck with oral narratives
4. Elevator pitch

Options :

485584133917. 1
485584133918. 2
485584133919. 3
485584133920. 4

Question Number : 115 Question Id : 48558433480 Question Type : MCQ Option Shuffling : No Is Question Mandatory : No Calculator : None Response Time : N.A Think Time : N.A Minimum Instruction Time : 0

Correct Marks : 5 Wrong Marks : 1

Question Key Details :

Key	Value
Comprehension	MCQ

मन्नत, जो कि उद्यमशीलता की एक छात्रा है, ने अपना 'बाढ़ राहत बेड़ा' बनाने का उद्यम स्थापित करने का निर्णय लिया। वित्तपोषण हेतु उसने एंजेल निवेशकों में से एक से संपर्क किया जिसने उसको उसकी व्यवसायिक योजना का 3 मिनट अवधि का कार्यकारी सारांश बनाने की सलाह दी। निम्न विकल्पों में से मन्नत को सुझाये उस व्यवसायिक योजना प्रारूप को पहचाने, जोकि सामान्यतः संभावित वित्तपोषकों और ग्राहकों आदि की रुचि जागृत करने के लिये टीज़र के रूप में प्रयोग किया जाता है।

1. बाह्य शेयर धारकों हेतु भली भांति लिखित प्रस्तुति
2. आंतरिक परिचालन योजना
3. मौखिक आख्यान सहित संक्षिप्त प्रस्तुति
4. व्यवसाय का संक्षिप्त परिचय

Options :

485584133917. 1
485584133918. 2
485584133919. 3
485584133920. 4

Question Number : 116 Question Id : 48558433481 Question Type : MCQ Option Shuffling : No Is Question Mandatory : No Calculator : None Response Time : N.A Think Time : N.A Minimum Instruction Time : 0

Correct Marks : 5 Wrong Marks : 1

Question Key Details :

Key	Value
Comprehension	MCQ

Select the option that enlists all the micro environment factors from the following

- A. Competition
- B. Rate of Inflation
- C. Suppliers
- D. Customers
- E. Size of young population of India.

Choose the correct answer from the options given below:

1. B, D, E only
2. A, C, D only
3. C, D, E only
4. B, C, D only

Options :

485584133921. 1
485584133922. 2
485584133923. 3
485584133924. 4

Question Number : 116 Question Id : 48558433481 Question Type : MCQ Option Shuffling : No Is Question Mandatory : No Calculator : None Response Time : N.A Think Time : N.A Minimum Instruction Time : 0

Correct Marks : 5 Wrong Marks : 1

Question Key Details :

Key	Value
Comprehension	MCQ

निम्नलिखित में से सभी सूक्ष्म परिवेश कारकों को सूचीबद्ध करने वाले विकल्पों का चयन कीजिए।

- A. प्रतियोगिता
- B. मुद्रा स्फिति की दर
- C. पूर्तिकर्ता
- D. ग्राहक
- E. भारत की युवा जनसंख्या का आकार

निम्नलिखित विकल्पों में सही उत्तर का चयन कीजिए।

1. केवल B, D और E
2. केवल A, C और D
3. केवल C, D और E
4. केवल B, C और D

Options :

- 485584133921. 1
- 485584133922. 2
- 485584133923. 3
- 485584133924. 4

Question Number : 117 Question Id : 48558433482 Question Type : MCQ Option Shuffling : No Is Question Mandatory : No Calculator : None Response Time : N.A Think Time : N.A Minimum Instruction Time : 0

Correct Marks : 5 Wrong Marks : 1

Question Key Details :

Key	Value
Comprehension	MCQ

Match List I with List II

LIST I Components of financial plan		LIST II Features	
A.	Proforma investment decision	I.	The amount of cash available
B.	Proforma Financing decision	II.	How much funds are required
C.	Proforma cash flow	III.	Protected net profit
D.	Proforma Income Statement	IV.	Where will funds come from

Choose the correct answer from the options given below:

1. A-I, B-II, C-III, D-IV
2. A-II, B-IV, C-I, D-III
3. A-IV, B-III, C-II, D-I
4. A-III, B-II, C-I, D-IV

Options :

485584133925. 1
485584133926. 2
485584133927. 3
485584133928. 4

Question Number : 117 Question Id : 48558433482 Question Type : MCQ Option Shuffling : No Is Question Mandatory : No Calculator : None Response Time : N.A Think Time : N.A Minimum Instruction Time : 0

Correct Marks : 5 Wrong Marks : 1

Question Key Details :

Key	Value
Comprehension	MCQ

सूची I का सूची II से मिलान कीजिए

सूची I		सूची II	
वित्तीय योजना के तत्व		विशेषताएं	
A.	प्रोफॉर्मा निवेश निर्णय	I.	नकदी उपलब्धता मात्रा
B.	प्रोफॉर्मा वित्तपोषण निर्णय	II.	आवश्यक कोषों की मात्रा
C.	प्रोफॉर्मा नकदी प्रवाह	III.	संरक्षित निवल लाभ
D.	प्रोफॉर्मा आय विवरण	IV.	कोष आगमन कहाँ से होगा

निम्नलिखित विकल्पों में से सही उत्तर का चयन कीजिए :

1. A-I, B-II, C-III, D-IV
2. A-II, B-IV, C-I, D-III
3. A-IV, B-III, C-II, D-I
4. A-III, B-II, C-I, D-IV

Options :

485584133925. 1
485584133926. 2
485584133927. 3
485584133928. 4

Question Number : 118 Question Id : 48558433483 Question Type : MCQ Option Shuffling : No Is Question Mandatory : No Calculator : None Response Time : N.A Think Time : N.A Minimum Instruction Time : 0

Correct Marks : 5 Wrong Marks : 1

Question Key Details :

Key	Value
Comprehension	MCQ

A good advertising catches the eye or ear of the audience. The correct order of remaining stages is:

- A. Interest
- B. Action
- C. Attention
- D. Desire

Choose the correct answer from the options given below:

1. A, B, C only
2. A, D, B only
3. B, D only
4. D, A, B only

Options :

- 485584133929. 1
- 485584133930. 2
- 485584133931. 3
- 485584133932. 4

Question Number : 118 Question Id : 48558433483 Question Type : MCQ Option Shuffling : No Is Question Mandatory : No Calculator : None Response Time : N.A Think Time : N.A Minimum Instruction Time : 0

Correct Marks : 5 Wrong Marks : 1

Question Key Details :

Key	Value
Comprehension	MCQ

एक अच्छा विज्ञापन श्रोताओं का ध्यान आकर्षित करता है। शेष चरणों का सही क्रम है :

- A. रुचि
- B. कार्य
- C. ध्यान
- D. चाहत

निम्नलिखित विकल्पों में से सही उत्तर का चयन कीजिए

1. केवल A, B, C
2. केवल A, D, B
3. केवल B, D
4. केवल D, A, B

Options :

- 485584133929. 1
- 485584133930. 2
- 485584133931. 3
- 485584133932. 4

Question Number : 119 Question Id : 48558433484 Question Type : MCQ Option Shuffling : No Is Question Mandatory : No Calculator : None Response Time : N.A Think Time : N.A Minimum Instruction Time : 0

Correct Marks : 5 Wrong Marks : 1

Question Key Details :

Key	Value
Comprehension	MCQ

' A Patent' :

1. Gives the creator of original work exclusive rights
2. Grants an inventor the right to exclude others from using or selling an invention
3. A recognizable sign, design or expression
4. Protects the visual design of objects that are not purely utilitarian

Options :

485584133933. 1

485584133934. 2

485584133935. 3

485584133936. 4

Question Number : 119 Question Id : 48558433484 Question Type : MCQ Option Shuffling : No Is Question Mandatory : No Calculator : None Response Time : N.A Think Time : N.A Minimum Instruction Time : 0

Correct Marks : 5 Wrong Marks : 1

Question Key Details :

Key	Value
Comprehension	MCQ

एक पेटेंट :

1. मूल कार्य के रचनाकार को विशिष्ट अधिकार देता है।
2. निवेशक को किसी आविष्कार को प्रयोग करने या बेचने से अन्यो को अलग करने का अधिकार देता है।
3. एक पहचान योग्य चिह्न, डिजाइन अथवा अभिव्यक्ति
4. उन वस्तुओं के दृश्य डिजाइन का संरक्षण करता है, जो कि विशुद्ध रूप से उपयोगितावादी नहीं है।

Options :

485584133933. 1

485584133934. 2

485584133935. 3

485584133936. 4

Question Number : 120 Question Id : 48558433485 Question Type : MCQ Option Shuffling : No Is Question Mandatory : No Calculator : None Response Time : N.A Think Time : N.A Minimum Instruction Time : 0

Correct Marks : 5 Wrong Marks : 1

Question Key Details :

Key	Value
Comprehension	MCQ

Match List I with List II

LIST I		LIST II	
A.	Product	I.	Method to spread the word about the product or service
B.	Price	II.	Item actually being sold
C.	Place	III.	Value put on a product
D.	Promotion	IV.	Path along which goods move from producers to consumers

Choose the correct answer from the options given below:

1. A-IV, B-II, C-I, D-III
2. A-III, B-II, C-IV, D-I
3. A-II, B-I, C-IV, D-III
4. A-II, B-III, C-IV, D-I

Options :

485584133937. 1
485584133938. 2
485584133939. 3
485584133940. 4

Question Number : 120 Question Id : 48558433485 Question Type : MCQ Option Shuffling : No Is Question Mandatory : No Calculator : None Response Time : N.A Think Time : N.A Minimum Instruction Time : 0

Correct Marks : 5 Wrong Marks : 1

Question Key Details :

Key	Value
Comprehension	MCQ

सूची I का सूची II से मिलान कीजिए

सूची I		सूची II	
A.	वस्तु	I.	वस्तु या सेवा के प्रचार का तरीका
B.	कीमत	II.	बेची जाने वाली वस्तु
C.	स्थान	III.	वस्तु का मूल्य
D.	प्रचार	IV.	वह रास्ता जिससे वस्तुएं उत्पादक से उपभोक्ता तक संचालित होती हैं

निम्नलिखित विकल्पों में से सही उत्तर का चयन कीजिए :

1. A-IV, B-II, C-I, D-III
2. A-III, B-II, C-IV, D-I
3. A-II, B-I, C-IV, D-III
4. A-II, B-III, C-IV, D-I

Options :

485584133937. 1
485584133938. 2
485584133939. 3

Question Number : 121 Question Id : 48558433486 Question Type : MCQ Option Shuffling : No Is Question Mandatory : No Calculator : None Response Time : N.A Think Time : N.A Minimum Instruction Time : 0

Correct Marks : 5 Wrong Marks : 1

Question Key Details :

Key	Value
Comprehension	MCQ

Identify the correct statements

- A. A logo is used as a short path for advertising.
- B. A logo anchors company's brand.
- C. A logo is only used by individuals.
- D. A logo has to be completely graphic.
- E. A logo is also called logotype.

Choose the correct answer from the options given below:

- 1. A, B only
- 2. A, B, E only
- 3. A, E only
- 4. C, E only

Options :

- 485584133941. 1
- 485584133942. 2
- 485584133943. 3
- 485584133944. 4

Question Number : 121 Question Id : 48558433486 Question Type : MCQ Option Shuffling : No Is Question Mandatory : No Calculator : None Response Time : N.A Think Time : N.A Minimum Instruction Time : 0

Correct Marks : 5 Wrong Marks : 1

Question Key Details :

Key	Value
Comprehension	MCQ

सही वाक्यों की पहचान कीजिए।

- A. लोगो का प्रयोग विज्ञापन हेतु एक लघुमार्ग के रूप में होता है।
- B. लोगो कंपनी के ब्रांड का समर्थन करता है।
- C. लोगो का प्रयोग केवल व्यक्तियों द्वारा किया जाता है।
- D. लोगो पूर्ण रूप से ग्राफिक होता है।
- E. लोगो को लोगोटाईप भी कहते हैं।

निम्नलिखित विकल्पों में से सही उत्तर का चयन कीजिए।

- 1. A और B
- 2. केवल A, B और E
- 3. केवल A और E
- 4. केवल C और E

Options :

- 485584133941. 1
- 485584133942. 2
- 485584133943. 3
- 485584133944. 4

Question Number : 122 Question Id : 48558433487 Question Type : MCQ Option Shuffling : No Is Question Mandatory : No Calculator : None Response Time : N.A Think Time : N.A Minimum Instruction Time : 0

Correct Marks : 5 Wrong Marks : 1

Question Key Details :

Key	Value
Comprehension	MCQ

When, with the merger of two companies, the combined value of the entity is more than the sum total of their individual company value, it is called as _____;

- 1. Competency
- 2. Value addition
- 3. Synergy
- 4. Conglomerate

Options :

- 485584133945. 1
- 485584133946. 2
- 485584133947. 3
- 485584133948. 4

Question Number : 122 Question Id : 48558433487 Question Type : MCQ Option Shuffling : No Is Question Mandatory : No Calculator : None Response Time : N.A Think Time : N.A Minimum Instruction Time : 0

Correct Marks : 5 Wrong Marks : 1

Question Key Details :

Key	Value
-----	-------

जब दो कंपनियों के विलय के बनी इकाई का संयुक्त मूल्य, एकल कंपनी के कुल योग मूल्य से अधिक होता है तो इसको _____ कहा जाता है।

1. क्षमता
2. मूल्यवृद्धि
3. तालमेल
4. समुच्चयकरण

Options :

485584133945. 1
485584133946. 2
485584133947. 3
485584133948. 4

Question Number : 123 Question Id : 48558433488 Question Type : MCQ Option Shuffling : No Is Question Mandatory : No Calculator : None Response Time : N.A Think Time : N.A Minimum Instruction Time : 0

Correct Marks : 5 Wrong Marks : 1

Question Key Details :

Key	Value
Comprehension	MCQ

"Rohan took an agency of MRF tyres & opened a shop at Lajpat Nagar market".

Which type of franchising is discussed in the above paragraph?

1. Manufacturing franchise opportunity
2. Product franchise business opportunity
3. Business franchise opportunity venture
4. Business format franchise opportunity

Options :

485584133949. 1
485584133950. 2
485584133951. 3
485584133952. 4

Question Number : 123 Question Id : 48558433488 Question Type : MCQ Option Shuffling : No Is Question Mandatory : No Calculator : None Response Time : N.A Think Time : N.A Minimum Instruction Time : 0

Correct Marks : 5 Wrong Marks : 1

Question Key Details :

Key	Value
Comprehension	MCQ

"रोहन ने MRF टायर कंपनी की एजेंसी ली और लाजपत नगर में दुकान खोली"

उपर्युक्त अनुच्छेद में किस प्रकार की फ्रेंचाइजिंग की चर्चा की गई है?

1. विनिर्माण फ्रेंचाइज अवसर
2. उत्पाद फ्रेंचाइज व्यवसायिक अवसर
3. व्यवसायिक फ्रेंचाइज अवसर उद्यम
4. व्यवसायिक फॉर्मेट फ्रेंचाइज अवसर

Options :

485584133949. 1
485584133950. 2
485584133951. 3
485584133952. 4

Question Number : 124 Question Id : 48558433489 Question Type : MCQ Option Shuffling : No Is Question Mandatory : No Calculator : None Response Time : N.A Think Time : N.A Minimum Instruction Time : 0

Correct Marks : 5 Wrong Marks : 1

Question Key Details :

Key	Value
Comprehension	MCQ

Which of the following is NOT the advantage of franchising from the point of view of franchisee?

1. Product Acceptance
2. Knowledge of the market
3. Quick Expansion
4. Management expertise

Options :

485584133953. 1
485584133954. 2
485584133955. 3
485584133956. 4

Question Number : 124 Question Id : 48558433489 Question Type : MCQ Option Shuffling : No Is Question Mandatory : No Calculator : None Response Time : N.A Think Time : N.A Minimum Instruction Time : 0

Correct Marks : 5 Wrong Marks : 1

Question Key Details :

Key	Value
Comprehension	MCQ

फ्रेंचाईज के दृष्टिकोण से निम्न में से कौन सा फ्रेंचाईजिंग का लाभ नहीं है?

1. उत्पाद स्वीकृति
2. बाजार का ज्ञान
3. तीव्र विस्तार
4. प्रबंधन निपूरणता

Options :

485584133953. 1
485584133954. 2
485584133955. 3
485584133956. 4

Question Number : 125 Question Id : 48558433490 Question Type : MCQ Option Shuffling : No Is Question Mandatory : No Calculator : None Response Time : N.A Think Time : N.A Minimum Instruction Time : 0

Correct Marks : 5 Wrong Marks : 1

Question Key Details :

Key	Value
Comprehension	MCQ

A merger between the two soft drink manufacturing company in Jaipur is an example of :

1. Conglomerate
2. Market extension mergers
3. Product extension mergers
4. Horizontal merger

Options :

485584133957. 1
485584133958. 2
485584133959. 3
485584133960. 4

Question Number : 125 Question Id : 48558433490 Question Type : MCQ Option Shuffling : No Is Question Mandatory : No Calculator : None Response Time : N.A Think Time : N.A Minimum Instruction Time : 0

Correct Marks : 5 Wrong Marks : 1

Question Key Details :

Key	Value
Comprehension	MCQ

जयपुर में दो सॉफ्ट ड्रिंक बनाने वाली कंपनियों का विलय किसका उदाहरण है:

1. समुच्चयकरण
2. बाज़ार विस्तार विलय
3. उत्पाद विस्तार विलय
4. क्षैतिज विलय

Options :

485584133957. 1
485584133958. 2
485584133959. 3
485584133960. 4

Question Number : 126 Question Id : 48558433491 Question Type : MCQ Option Shuffling : No Is Question Mandatory : No Calculator : None Response Time : N.A Think Time : N.A Minimum Instruction Time : 0

Correct Marks : 5 Wrong Marks : 1

Question Key Details :

Key	Value
Comprehension	MCQ

Costs involved with receipt of goods, inspection of goods is known as _____.

1. Purchased cost of inventory
2. Ordering cost
3. Holding cost
4. EOQ (Economic Order Quantity)

Options :

485584133961. 1
485584133962. 2
485584133963. 3
485584133964. 4

Question Number : 126 Question Id : 48558433491 Question Type : MCQ Option Shuffling : No Is Question Mandatory : No Calculator : None Response Time : N.A Think Time : N.A Minimum Instruction Time : 0

Correct Marks : 5 Wrong Marks : 1

Question Key Details :

Key	Value
Comprehension	MCQ

वस्तुओं की प्राप्ति और वस्तुओं के निरीक्षण में सम्मिलित लागत को _____ कहा जाता है।

1. मालसूची की खरीदारी लागत
2. ऑर्डर करने की लागत
3. धारित लागत
4. ईओक्यू

Options :

485584133961. 1
485584133962. 2
485584133963. 3
485584133964. 4

Question Number : 127 Question Id : 48558433492 Question Type : MCQ Option Shuffling : No Is Question Mandatory : No Calculator : None Response Time : N.A Think Time : N.A Minimum Instruction Time : 0

Correct Marks : 5 Wrong Marks : 1

Question Key Details :

Key	Value
Comprehension	MCQ

Money needed to fund the normal day to day operations of a business is:

1. Working Capital
2. Shareholders funds
3. Depreciation
4. Interest

Options :

485584133965. 1
485584133966. 2
485584133967. 3
485584133968. 4

Question Number : 127 Question Id : 48558433492 Question Type : MCQ Option Shuffling : No Is Question Mandatory : No Calculator : None Response Time : N.A Think Time : N.A Minimum Instruction Time : 0

Correct Marks : 5 Wrong Marks : 1

Question Key Details :

Key	Value
Comprehension	MCQ

व्यवसाय के दैनिक परिचालन हेतु मुद्रा की आवश्यकता को कहते हैं :

1. कार्यशील पूँजी
2. अंशधारक कोष
3. मूल्यहास
4. ब्याज

Options :

485584133965. 1
485584133966. 2
485584133967. 3
485584133968. 4

Question Number : 128 Question Id : 48558433493 Question Type : MCQ Option Shuffling : No Is Question Mandatory : No Calculator : None Response Time : N.A Think Time : N.A Minimum Instruction Time : 0

Correct Marks : 5 Wrong Marks : 1

Question Key Details :

Key	Value
Comprehension	MCQ

Net working capital can be calculated using:

- A. Current assets
- B. Non-current assets
- C. Current Liabilities
- D. Non-current Liabilities
- E. Shareholder's funds

Choose the correct answer from the options given below:

1. A and D only
2. A and B only
3. A and C only
4. D and E only

Options :

485584133969. 1
485584133970. 2
485584133971. 3
485584133972. 4

Question Number : 128 Question Id : 48558433493 Question Type : MCQ Option Shuffling : No Is Question Mandatory : No Calculator : None Response Time : N.A Think Time : N.A Minimum Instruction Time : 0

Correct Marks : 5 Wrong Marks : 1

Question Key Details :

Key	Value
Comprehension	MCQ

शुद्ध कार्यशील पूंजी की गणना किसके प्रयोग द्वारा की जा सकती है:

- A. चालू परिसंपत्तियाँ
- B. गैर चालू परिसंपत्तियाँ
- C. चालू दायित्व
- D. गैर चालू दायित्व
- E. अंशधारक कोष

निम्नलिखित विकल्पों में से सही उत्तर का चयन कीजिए

- 1. केवल A और D
- 2. केवल A और B
- 3. केवल A और C
- 4. केवल D और E

Options :

- 485584133969. 1
- 485584133970. 2
- 485584133971. 3
- 485584133972. 4

Question Number : 129 Question Id : 48558433494 Question Type : MCQ Option Shuffling : No Is Question Mandatory : No Calculator : None Response Time : N.A Think Time : N.A Minimum Instruction Time : 0

Correct Marks : 5 Wrong Marks : 1

Question Key Details :

Key	Value
Comprehension	MCQ

Calculate ROI (Return on Investment); where you spend ₹2,00,000/- to open a restaurant and make a profit of ₹40,000/- in one year

- 1. 10%
- 2. 20%
- 3. 50%
- 4. 25%

Options :

- 485584133973. 1
- 485584133974. 2
- 485584133975. 3
- 485584133976. 4

Question Number : 129 Question Id : 48558433494 Question Type : MCQ Option Shuffling : No Is Question Mandatory : No Calculator : None Response Time : N.A Think Time : N.A Minimum Instruction Time : 0

Correct Marks : 5 Wrong Marks : 1

Question Key Details :

Key	Value
-----	-------

ROI (निवेश प्रतिफल) की गणना करे जब आप रेस्टोरेन्ट खोलने पर ₹2,00,000/- खर्च करते है और ₹40,000/- का लाभ एक वर्ष में कमाते है।

1. 10%
2. 20%
3. 50%
4. 25%

Options :

485584133973. 1
485584133974. 2
485584133975. 3
485584133976. 4

Question Number : 130 Question Id : 48558433495 Question Type : MCQ Option Shuffling : No Is Question Mandatory : No Calculator : None Response Time : N.A Think Time : N.A Minimum Instruction Time : 0

Correct Marks : 5 Wrong Marks : 1

Question Key Details :

Key	Value
Comprehension	MCQ

Effective Inventory Control System aims at

- A. Providing stock as and when the need arises
- B. Procuring stock at minimum possible price
- C. Minimizing cost
- D. Minimizing investment in inventory
- E. Minimizing Control

Choose the correct answer from the options given below:

1. A and D only
2. B and D only
3. A and B only
4. D and E only

Options :

485584133977. 1
485584133978. 2
485584133979. 3
485584133980. 4

Question Number : 130 Question Id : 48558433495 Question Type : MCQ Option Shuffling : No Is Question Mandatory : No Calculator : None Response Time : N.A Think Time : N.A Minimum Instruction Time : 0

Correct Marks : 5 Wrong Marks : 1

Question Key Details :

Key	Value
-----	-------

प्रभावशाली मालसूची नियंत्रण व्यवस्था का लक्ष्य है-

- A. आवश्यकता होने पर स्टॉक उपलब्ध कराना
- B. न्यूनतम कीमत पर स्टॉक प्राप्त करना
- C. लागत कम करना
- D. मालसूची में निवेश को कम करना
- E. नियंत्रण को कम करना

निम्नलिखित विकल्पों में से सही उत्तर का चयन करें।

1. केवल A और D
2. केवल B और D
3. केवल A और B
4. केवल D और E

Options :

- 485584133977. 1
- 485584133978. 2
- 485584133979. 3
- 485584133980. 4

Question Number : 131 Question Id : 48558433496 Question Type : MCQ Option Shuffling : No Is Question Mandatory : No Calculator : None Response Time : N.A Think Time : N.A Minimum Instruction Time : 0

Correct Marks : 5 Wrong Marks : 1

Question Key Details :

Key	Value
Comprehension	MCQ

A seller sells 30000 units of a product per year, demand is uniform. Purchase cost is Rs. 6/- per product. Holding cost per annum is 20% of purchase cost. Ordering cost is Rs.500/- per order. What would be the Economic Order Quantity?

1. 5000 units
2. 5500 units
3. 5200 units
4. 4800 units

Options :

- 485584133981. 1
- 485584133982. 2
- 485584133983. 3
- 485584133984. 4

Question Number : 131 Question Id : 48558433496 Question Type : MCQ Option Shuffling : No Is Question Mandatory : No Calculator : None Response Time : N.A Think Time : N.A Minimum Instruction Time : 0

Correct Marks : 5 Wrong Marks : 1

Question Key Details :

Key	Value
Comprehension	MCQ

एक विक्रेता प्रतिवर्ष एक उत्पाद की 30000 ईकाइयाँ बेचता है, माँग स्थिर है। खरीद लागत 6/- रू प्रति उत्पाद, वहन लागत खरीद लागत 20% प्रतिवर्ष है। ऑर्डर करने की लागत 500/- रू प्रति ऑर्डर है। EOQ (आर्थिक ऑर्डर मात्रा) क्या होगी?

1. 5000 ईकाइयाँ
2. 5500 ईकाइयाँ
3. 5200 ईकाइयाँ
4. 4800 ईकाइयाँ

Options :

485584133981. 1
485584133982. 2
485584133983. 3
485584133984. 4

Question Number : 132 Question Id : 48558433497 Question Type : MCQ Option Shuffling : No Is Question Mandatory : No Calculator : None Response Time : N.A Think Time : N.A Minimum Instruction Time : 0

Correct Marks : 5 Wrong Marks : 1

Question Key Details :

Key	Value
Comprehension	MCQ

Sandeep, Mohit, Rajat and Rakesh are businessmen producing different products. It takes Sandeep 4 months, Mohit 3 months, Rajat 7 months and Rakesh 1 month, to purchase inventory and to sell the finished product in the market to get cash. Who will require maximum working capital?

1. Sandeep
2. Mohit
3. Rajat
4. Rakesh

Options :

485584133985. 1
485584133986. 2
485584133987. 3
485584133988. 4

Question Number : 132 Question Id : 48558433497 Question Type : MCQ Option Shuffling : No Is Question Mandatory : No Calculator : None Response Time : N.A Think Time : N.A Minimum Instruction Time : 0

Correct Marks : 5 Wrong Marks : 1

Question Key Details :

Key	Value
Comprehension	MCQ

संदीप, मोहित, रजत और राकेश विभिन्न उत्पादों का उत्पादन करने वाले उत्पादक हैं। मालसूची खरीदने और नकदी प्राप्त करने हेतु बाजार में तैयार वस्तुएं बेचने में संदीप को 4 माह, मोहित को 3 माह, रजत को 7 माह और राकेश को 1 माह का समय लगता है। किसको अधिकतम कार्यशील पूँजी की आवश्यकता होगी?

1. संदीप
2. मोहित
3. रजत
4. राकेश

Options :

485584133985. 1
485584133986. 2
485584133987. 3
485584133988. 4

Question Number : 133 Question Id : 48558433498 Question Type : MCQ Option Shuffling : No Is Question Mandatory : No Calculator : None Response Time : N.A Think Time : N.A Minimum Instruction Time : 0

Correct Marks : 5 Wrong Marks : 1

Question Key Details :

Key	Value
Comprehension	MCQ

The role of transferring financial resources from the surplus units to deficit units is referred to as :

1. Rights Issue
2. Angel Investors
3. Capital Markets
4. Financial intermediation

Options :

485584133989. 1
485584133990. 2
485584133991. 3
485584133992. 4

Question Number : 133 Question Id : 48558433498 Question Type : MCQ Option Shuffling : No Is Question Mandatory : No Calculator : None Response Time : N.A Think Time : N.A Minimum Instruction Time : 0

Correct Marks : 5 Wrong Marks : 1

Question Key Details :

Key	Value
Comprehension	MCQ

अधिशेष इकाईयों से घाटेवली इकाईयों की और वित्तीय संसाधनों के हस्तांतरण की भूमिका को जाना जाता है :

1. राइट इश्यू
2. ँंजल निवेशक
3. पूंजी बाजार
4. वित्तीय मध्यस्थता

Options :

485584133989. 1
485584133990. 2
485584133991. 3
485584133992. 4

Question Number : 134 Question Id : 48558433499 Question Type : MCQ Option Shuffling : No Is Question Mandatory : No Calculator : None Response Time : N.A Think Time : N.A Minimum Instruction Time : 0

Correct Marks : 5 Wrong Marks : 1

Question Key Details :

Key	Value
Comprehension	MCQ

The 'new issues' may be issued by old companies and are called _____.

1. Public issue
2. Rights issue
3. Further issue
4. Initial issue

Options :

485584133993. 1
485584133994. 2
485584133995. 3
485584133996. 4

Question Number : 134 Question Id : 48558433499 Question Type : MCQ Option Shuffling : No Is Question Mandatory : No Calculator : None Response Time : N.A Think Time : N.A Minimum Instruction Time : 0

Correct Marks : 5 Wrong Marks : 1

Question Key Details :

Key	Value
Comprehension	MCQ

पुरानी कंपनियों द्वारा 'नया इश्यू' जारी करना _____ कहलाता है।

1. पब्लिक इश्यू
2. राइट इश्यू
3. अतिरिक्त इश्यू
4. प्रारम्भिक इश्यू

Options :

485584133993. 1
485584133994. 2
485584133995. 3
485584133996. 4

Question Number : 135 Question Id : 48558433500 Question Type : MCQ Option Shuffling : No Is Question Mandatory : No Calculator : None Response Time : N.A Think Time : N.A Minimum Instruction Time : 0

Correct Marks : 5 Wrong Marks : 1

Question Key Details :

Key	Value
Comprehension	MCQ

Mahima started a venture where she could provide food from various restaurants to passengers travelling by train. She created an app for the same. She was guided all throughout by her friend & mentor Shalini, who was a successful entrepreneur herself. Shalini had a corpus of funds which she decided to transfer to Mahima for her venture. Mahima preferred to give Shalini a return on her investment. Identify the source of financing for Mahima.

1. Venture Capital
2. Angel Investor
3. Loan
4. Charity

Options :

485584133997. 1
485584133998. 2
485584133999. 3
485584134000. 4

Question Number : 135 Question Id : 48558433500 Question Type : MCQ Option Shuffling : No Is Question Mandatory : No Calculator : None Response Time : N.A Think Time : N.A Minimum Instruction Time : 0

Correct Marks : 5 Wrong Marks : 1

Question Key Details :

Key	Value
Comprehension	MCQ

महिमा ने रेल में यात्रा कर रहे यात्रियों को विभिन्न रेस्टोरेन्ट से भोजन उपलब्ध करवाने हेतु एक उद्यम आरंभ किया। उसने इस कार्य के लिये एक ऐप बनाई। उसको सम्पूर्ण कार्य के लिये उसकी दोस्त और मेंटर शालिनी से मार्गदर्शन मिला था, जोकि स्वयं भी एक सफल उद्यमी थी। शालिनी के पास कांपर्स फंड था जो उसने महिमा को उसके उद्यम हेतु स्थानांतरित करने का निर्णय लिया। महिमा ने शालिनी को उसके निवेश पर प्रतिफल देने को वरीयता दी। महिमा हेतु वित्त पोषण के स्रोत को पहचानें।

1. उद्यम पूँजी
2. ऐंजल निवेशक
3. ऋण
4. दान

Options :

485584133997. 1
485584133998. 2
485584133999. 3
485584134000. 4

Question Number : 136 Question Id : 48558433501 Question Type : MCQ Option Shuffling : No Is Question Mandatory : No Calculator : None Response Time : N.A Think Time : N.A Minimum Instruction Time : 0

Correct Marks : 5 Wrong Marks : 1

Question Key Details :

Key	Value
Comprehension	MCQ

_____ is a type of private equity capital provided as seed funding to early stage, high potential, high risk growth up companies/entrepreneurs.

1. Angel investor
2. Venture Capital
3. Working Capital
4. Fixed Capital

Options :

485584134001. 1
485584134002. 2
485584134003. 3
485584134004. 4

Question Number : 136 Question Id : 48558433501 Question Type : MCQ Option Shuffling : No Is Question Mandatory : No Calculator : None Response Time : N.A Think Time : N.A Minimum Instruction Time : 0

Correct Marks : 5 Wrong Marks : 1

Question Key Details :

Key	Value
Comprehension	MCQ

आरंभिक अवस्था वाली, उच्च संभावना वाली, उच्च जोखिम वृद्धि वाली कंपनियों/उद्यमों को अंकुर पूँजी के रूप में उपलब्ध कराये गये निजी इक्विटी पूँजी का एक प्रकार है।

1. ऐंजल निवेशक
2. उद्यम पूँजी
3. कार्यशील पूँजी
4. निर्धारित पूँजी

Options :

485584134001. 1
485584134002. 2
485584134003. 3
485584134004. 4

Question Number : 137 Question Id : 48558433502 Question Type : MCQ Option Shuffling : No Is Question Mandatory : No Calculator : None Response Time : N.A Think Time : N.A Minimum Instruction Time : 0

Correct Marks : 5 Wrong Marks : 1

Question Key Details :

Key	Value
Comprehension	MCQ

Match List I with List II

LIST I		LIST II	
Types of Issues		Characteristics	
A.	Public issue	I.	Inexpensive & no brokerage
B.	Rights issue	II.	Stock options to motivate employees
C.	Private placement	III.	Issue of prospects
D.	Offer to employees	IV.	UTI, LIC, GICI, SLFC

Choose the correct answer from the options given below:

1. A-IV, B-III, C-II, D-I
2. A-III, B-I, C-IV, D-II
3. A-II, B-IV, C-I, D-III
4. A-I, B-III, C-II, D-IV

Options :

485584134005. 1
485584134006. 2
485584134007. 3
485584134008. 4

Question Number : 137 Question Id : 48558433502 Question Type : MCQ Option Shuffling : No Is Question Mandatory : No Calculator : None Response Time : N.A Think Time : N.A Minimum Instruction Time : 0

Correct Marks : 5 Wrong Marks : 1

Question Key Details :

Key	Value
Comprehension	MCQ

सूची I का सूची II से मिलान कीजिए

सूची I		सूची II	
A.	पब्लिक इश्यू	I.	गैर खर्चीला और दलाली नहीं
B.	राइट इश्यू	II.	कर्मचारियों को प्रेरित करने हेतु स्टॉक के विकल्प
C.	निजी प्लेसमेंट	III.	प्रोस्पेक्टस का इश्यू
D.	कर्मचारियों को ऑफर	IV.	UTI, LIC, GICI, SLFC

निम्नलिखित विकल्पों में से सही उत्तर का चयन कीजिए :

1. A-IV, B-III, C-II, D-I
2. A-III, B-I, C-IV, D-II
3. A-II, B-IV, C-I, D-III
4. A-I, B-III, C-II, D-IV

Options :

485584134005. 1
485584134006. 2
485584134007. 3
485584134008. 4

Question Number : 138 Question Id : 48558433503 Question Type : MCQ Option Shuffling : No Is Question Mandatory : No Calculator : None Response Time : N.A Think Time : N.A Minimum Instruction Time : 0

Correct Marks : 5 Wrong Marks : 1

Question Key Details :

Key	Value
Comprehension	MCQ

Venture capitalist look for an exit from the business in the time frame of typically 3-7 years. Identify the way venture capitalist (VC) exit within the time frame from the business where they are investing?

1. VC's have a continuous involvement in the business so they do not exit.
2. VC's disinvest the holdings either to the promoters or in the market
3. VC's invest in the early stage and exit in the pre-public stage by disinvesting their holdings to the promoters
4. VC's exit after selling the shares in the market

Options :

485584134009. 1
485584134010. 2
485584134011. 3
485584134012. 4

Question Number : 138 Question Id : 48558433503 Question Type : MCQ Option Shuffling : No Is Question Mandatory : No Calculator : None Response Time : N.A Think Time : N.A Minimum Instruction Time : 0

Correct Marks : 5 Wrong Marks : 1

Question Key Details :

Key	Value
Comprehension	MCQ

3-7 वर्षों के कठिन टाइम फ्रेम में पूंजीवादी उद्यमी (VC) व्यवसाय से निकास का निर्णय लेता है।

पूँजीवादी उद्यमी (VC) द्वारा टाइम फ्रेम के भीतर व्यवसाय, जहाँ वह निवेश कर रहे थे, से निकलने के तरीके की पहचान कीजिए।

1. VC की व्यवसाय में निरंतर संलग्नता है जिसके कारण वह निकल नहीं सकता।
2. VC रोके गए शेयरों को प्रमोटर्स अथवा बाज़ार में विनिवेश करता है।
3. VC आरंभिक अवस्था में निवेश करता है तथा प्री-पब्लिक अवस्था में अपने शेयरों को प्रमोटर्स को विनिवेशित कर बाहर निकल जाता है।
4. VC बाज़ार में शेयर बेचकर निकलता है।

Options :

- 485584134009. 1
- 485584134010. 2
- 485584134011. 3
- 485584134012. 4

Question Number : 139 Question Id : 48558433504 Question Type : MCQ Option Shuffling : No Is Question Mandatory : No Calculator : None Response Time : N.A Think Time : N.A Minimum Instruction Time : 0

Correct Marks : 5 Wrong Marks : 1

Question Key Details :

Key	Value
Comprehension	MCQ

Identify the role played by Amit in the process of Financial Intermediation, if he has money which he does not want to spend

1. Financial Intermediary
2. Surplus Unit
3. Deficit Unit
4. Lender

Options :

- 485584134013. 1
- 485584134014. 2
- 485584134015. 3
- 485584134016. 4

Question Number : 139 Question Id : 48558433504 Question Type : MCQ Option Shuffling : No Is Question Mandatory : No Calculator : None Response Time : N.A Think Time : N.A Minimum Instruction Time : 0

Correct Marks : 5 Wrong Marks : 1

Question Key Details :

Key	Value
-----	-------

वित्तीय मध्यस्थता में अमित द्वारा निभाई गई भूमिका की पहचान करें, यदि वह पैसे होते हुए भी खर्च नहीं करना चाहता।

1. वित्तीय मध्यस्थता
2. अधिशेष इकाई
3. घाटा इकाई
4. ऋण देन वाला

Options :

485584134013. 1
485584134014. 2
485584134015. 3
485584134016. 4

Question Number : 140 Question Id : 48558433505 Question Type : MCQ Option Shuffling : No Is Question Mandatory : No Calculator : None Response Time : N.A Think Time : N.A Minimum Instruction Time : 0

Correct Marks : 5 Wrong Marks : 1

Question Key Details :

Key	Value
Comprehension	MCQ

Market facilitating to transfer resources from the savers to the entrepreneurs setting new enterprises is:

1. Primary market
2. Secondary market
3. Money Market
4. Debt Market

Options :

485584134017. 1
485584134018. 2
485584134019. 3
485584134020. 4

Question Number : 140 Question Id : 48558433505 Question Type : MCQ Option Shuffling : No Is Question Mandatory : No Calculator : None Response Time : N.A Think Time : N.A Minimum Instruction Time : 0

Correct Marks : 5 Wrong Marks : 1

Question Key Details :

Key	Value
Comprehension	MCQ

वह बाज़ार जो नये उद्यम स्थापित करने हेतु बचत कर्ताओं से उद्यमियों को फंड के हस्तांतरण को सुगम बनाता है।

1. प्राथमिक व्यापार
2. द्वितीयक व्यापार
3. मुद्रा बाज़ार
4. ऋण बाज़ार

Options :

485584134017. 1
485584134018. 2
485584134019. 3
485584134020. 4

Sub-Section Number : 2
Sub-Section Id : 4855842423
Question Shuffling Allowed : No
Is Section Default? : null

Question Number : 141 Question Id : 48558433506 Question Type : MCQ Option Shuffling : No Is Question Mandatory : No Calculator : None Response Time : N.A Think Time : N.A Minimum Instruction Time : 0

Correct Marks : 5 Wrong Marks : 1

Question Key Details :

Key	Value
Comprehension	Comp1

Case Study (41-45):

Vibha had created a unique all weather jackets which had solar panels embedded in it. The USP of the jacket was that, harnessing the solar energy it could keep the jacket warm like a heater and cold like an air conditioner depending on the weather. Her market was the youth who came out of the comfort of their homes to stay in hostels. The name of her product was 'TURN COAT' which was beautifully written in comic sans font outside her showroom in FLD Mall. The name had a rising sun next to it making it an attractive composition to look at. Vibha was reading a lot of literature on the promotion strategies that she could use. She had already fixed a public appearance by the superstar Ralia Kapoor at her showroom in 15 days. She opened up Instagram and Twitter accounts in the name of 'TURN COAT'. She got the name of the product and the symbol of the rising sun printed on the parking ticket, that were collected by customers coming to the mall. While deciding on the pricing she was suggested by her mentor to keep the price very high to recover her R & D costs spent on developing the product. She was a little hesitant to do so and decided to price TURN COAT by covering the cost of producing it plus with reasonable profits

The name of Vibha's product 'TURN COAT' written in Comic sans font and the rising sun next to the name is:

1. Brand Mark
2. Logo
3. Brand Name
4. Trade Mark

Options :

485584134021. 1
485584134022. 2
485584134023. 3
485584134024. 4

Question Number : 141 Question Id : 48558433506 Question Type : MCQ Option Shuffling : No Is Question Mandatory : No Calculator : None Response Time : N.A Think Time : N.A Minimum Instruction Time : 0

Correct Marks : 5 Wrong Marks : 1

Question Key Details :

Key	Value
Comprehension	Comp1

केस अध्ययन (41-45)

विभा ने हर मौसम में काम आने वाला एक अनोखा जैकेट बनाया था जिसमें सौर पैनल लगा था। जैकेट की यू एस पी (अद्वितीय बिक्री प्रस्ताव) यह था कि मौसम के अनुसार यह सौर ऊर्जा का उपयोग करके जैकेट को हीटर की तरह गर्म और एयर कंडीशनर की तरह ठंडा रख सकता था। उसका बाज़ार वह युवा था जो घर से बाहर हॉस्टल में रहते हैं। उसके उत्पाद का नाम 'टर्न कोट' था जो कॉमिक सांन्स लिपि में बड़ी सुंदरता से एफ एल डी माल में उसके शो रूम के बाहर लिखा गया था।

नाम के आगे एक उगता सूरज था जो देखने में इसको एक सुंदर रचना बनाता था। विभा प्रयोग की जा सकने वाली प्रचार रणनीतियों पर साहित्य का अध्ययन कर रही थी। उसने 15 दिनों में अपने शोरूम में सुपर स्टार रालिया कपूर की सार्वजनिक उपस्थिति पहले ही तय कर दी थी। उसने 'टर्न कोट' नाम से इंस्टाग्राम और ट्विटर अकाउंट खोले। उसने माल आने वाले ग्राहकों के पार्किंग टिकट पर उत्पाद का नाम और उगते सूरज का चिन्ह मुद्रित कराया। कीमत निर्धारित करते समय उसे उसके मॉडल द्वारा ऊंची कीमत रखने का सुझाव दिया गया ताकि वह उत्पाद के निर्माण पर खर्च हुई अपने अनुसंधान एवं विकास लागत (आर एंड डी) को वसूल कर सके। वह ऐसा करने में थोड़ी झिझक रही थी, इसलिए उसने इसके उत्पादन की लागत और उचित लाभ को कवर करते हुए 'टर्न कोट' की कीमत निर्धारित करने का निर्णय किया।

कॉमिक सांन्स फोन्ट में लिखा विभा के उत्पाद 'टर्न कोट' का नाम और नाम के साथ उगता सूरज क्या दर्शाते हैं?

1. ब्रांड मार्क
2. लोगो
3. ब्रांड का नाम
4. ट्रेड मार्क

Options :

485584134021. 1
485584134022. 2
485584134023. 3
485584134024. 4

Question Number : 142 Question Id : 48558433507 Question Type : MCQ Option Shuffling : No Is Question Mandatory : No Calculator : None Response Time : N.A Think Time : N.A Minimum Instruction Time : 0

Correct Marks : 5 Wrong Marks : 1

Question Key Details :

Key	Value
Comprehension	Comp1

Case Study (41-45):

Vibha had created a unique all weather jackets which had solar panels embedded in it. The USP of the jacket was that, harnessing the solar energy it could keep the jacket warm like a heater and cold like an air conditioner depending on the weather. Her market was the youth who came out of the comfort of their homes to stay in hostels. The name of her product was 'TURN COAT' which was beautifully written in comic sans font outside her showroom in FLD Mall. The name had a rising sun next to it making it an attractive composition to look at. Vibha was reading a lot of literature on the promotion strategies that she could use. She had already fixed a public appearance by the superstar Ralia Kapoor at her showroom in 15 days. She opened up Instagram and Twitter accounts in the name of 'TURN COAT'. She got the name of the product and the symbol of the rising sun printed on the parking ticket, that were collected by customers coming to the mall. While deciding on the pricing she was suggested by her mentor to keep the price very high to recover her R & D costs spent on developing the product. She was a little hesitant to do so and decided to price TURN COAT by covering the cost of producing it plus with reasonable profits

The celebrity appearance of Ralia Kapoor at Vibha's showroom can be categorized as a part of:

1. Advertising
2. Public relations
3. Product placement
4. Sales promotion

Options :

- 485584134025. 1
- 485584134026. 2
- 485584134027. 3
- 485584134028. 4

Question Number : 142 Question Id : 48558433507 Question Type : MCQ Option Shuffling : No Is Question Mandatory : No Calculator : None Response Time : N.A Think Time : N.A Minimum Instruction Time : 0

Correct Marks : 5 Wrong Marks : 1

Question Key Details :

Key	Value
Comprehension	Comp1

केस अध्ययन (41-45)

विभा ने हर मौसम में काम आने वाला एक अनोखा जैकेट बनाया था जिसमें सौर पैनल लगा था। जैकेट की यू एस पी (अद्वितीय बिक्री प्रस्ताव) यह था कि मौसम के अनुसार यह सौर ऊर्जा का उपयोग करके जैकेट को हीटर की तरह गर्म और एयर कंडीशनर की तरह ठंडा रख सकता था। उसका बाज़ार वह युवा था जो घर से बाहर हॉस्टल में रहते हैं। उसके उत्पाद का नाम 'टर्न कोट' था जो कॉमिक सांन्स लिपि में बड़ी सुंदरता से एफ एल डी माल में उसके शो रूम के बाहर लिखा गया था।

नाम के आगे एक उगता सूरज था जो देखने में इसको एक सुंदर रचना बनाता था। विभा प्रयोग की जा सकने वाली प्रचार रणनीतियों पर साहित्य का अध्ययन कर रही थी। उसने 15 दिनों में अपने शोरूम में सुपर स्टार रालिया कपूर की सार्वजनिक उपस्थिति पहले ही तय कर दी थी। उसने 'टर्न कोट' नाम से इंस्टाग्राम और ट्विटर अकाउंट खोले। उसने माल आने वाले ग्राहकों के पार्किंग टिकट पर उत्पाद का नाम और उगते सूरज का चिन्ह मुद्रित कराया। कीमत निर्धारित करते समय उसे उसके मॉडल द्वारा ऊंची कीमत रखने का सुझाव दिया गया ताकि वह उत्पाद के निर्माण पर खर्च हुई अपने अनुसंधान एवं विकास लागत (आर एंड डी) को वसूल कर सके। वह ऐसा करने में थोड़ी झिझक रही थी, इसलिए उसने इसके उत्पादन की लागत और उचित लाभ को कवर करते हुए 'टर्न कोट' की कीमत निर्धारित करने का निर्णय किया।

विभा के शो रूम पर रालिया कपूर की सेलिब्रिटी उपस्थिति को किस रूप में वर्गीकृत किया जा सकता है?

1. विज्ञापन
2. जन संपर्क
3. उत्पाद प्लेसमेंट
4. बिक्री प्रचार

Options :

485584134025. 1
485584134026. 2
485584134027. 3
485584134028. 4

Question Number : 143 Question Id : 48558433508 Question Type : MCQ Option Shuffling : No Is Question Mandatory : No Calculator : None Response Time : N.A Think Time : N.A Minimum Instruction Time : 0

Correct Marks : 5 Wrong Marks : 1

Question Key Details :

Key	Value
Comprehension	Comp1

Case Study (41-45):

Vibha had created a unique all weather jackets which had solar panels embedded in it. The USP of the jacket was that, harnessing the solar energy it could keep the jacket warm like a heater and cold like an air conditioner depending on the weather. Her market was the youth who came out of the comfort of their homes to stay in hostels. The name of her product was 'TURN COAT' which was beautifully written in comic sans font outside her showroom in FLD Mall. The name had a rising sun next to it making it an attractive composition to look at. Vibha was reading a lot of literature on the promotion strategies that she could use. She had already fixed a public appearance by the superstar Ralia Kapoor at her showroom in 15 days. She opened up Instagram and Twitter accounts in the name of 'TURN COAT'. She got the name of the product and the symbol of the rising sun printed on the parking ticket, that were collected by customers coming to the mall. While deciding on the pricing she was suggested by her mentor to keep the price very high to recover her R & D costs spent on developing the product. She was a little hesitant to do so and decided to price TURN COAT by covering the cost of producing it plus with reasonable profits

The pricing technique that was suggested to Vibha and the one that she finally used can be identified as-

- A. Variable pricing
- B. Penetration pricing
- C. Skimming pricing
- D. Fixed cost pricing
- E. Cost-plus pricing

Choose the correct answer from the options given below:

- 1. C & E only
- 2. A & B only
- 3. B & D only
- 4. C & D only

Options :

- 485584134029. 1
- 485584134030. 2
- 485584134031. 3
- 485584134032. 4

Question Number : 143 Question Id : 48558433508 Question Type : MCQ Option Shuffling : No Is Question Mandatory : No Calculator : None Response Time : N.A Think Time : N.A Minimum Instruction Time : 0

Correct Marks : 5 Wrong Marks : 1

Question Key Details :

Key	Value
Comprehension	Comp1

केस अध्ययन (41-45)

विभा ने हर मौसम में काम आने वाला एक अनोखा जैकेट बनाया था जिसमें सौर पैनल लगा था। जैकेट की यू एस पी (अद्वितीय बिक्री प्रस्ताव) यह था कि मौसम के अनुसार यह सौर ऊर्जा का उपयोग करके जैकेट को हीटर की तरह गर्म और एयर कंडीशनर की तरह ठंडा रख सकता था। उसका बाज़ार वह युवा था जो घर से बाहर हॉस्टल में रहते हैं। उसके उत्पाद का नाम 'टर्न कोट' था जो कॉमिक सांस् लिपि में बड़ी सुंदरता से एफ एल डी माल में उसके शो रूम के बाहर लिखा गया था।

नाम के आगे एक उगता सूरज था जो देखने में इसको एक सुंदर रचना बनाता था। विभा प्रयोग की जा सकने वाली प्रचार रणनीतियों पर साहित्य का अध्ययन कर रही थी। उसने 15 दिनों में अपने शोरूम में सुपर स्टार रालिया कपूर की सार्वजनिक उपस्थिति पहले ही तय कर दी थी। उसने 'टर्न कोट' नाम से इंस्टाग्राम और ट्विटर अकाउंट खोले। उसने माल आने वाले ग्राहकों के पार्किंग टिकट पर उत्पाद का नाम और उगते सूरज का चिन्ह मुद्रित कराया। कीमत निर्धारित करते समय उसे उसके मॉडल द्वारा ऊंची कीमत रखने का सुझाव दिया गया ताकि वह उत्पाद के निर्माण पर खर्च हुई अपने अनुसंधान एवं विकास लागत (आर एंड डी) को वसूल कर सके। वह ऐसा करने में थोड़ी झिझक रही थी, इसलिए उसने इसके उत्पादन की लागत और उचित लाभ को कवर करते हुए 'टर्न कोट' की कीमत निर्धारित करने का निर्णय किया।

जो कीमत निर्धारण तकनीक विभा को सुझाई गई और जो उसने अंतिम रूप से प्रयोग की, उसे किस रूप में पहचाना जा सकता है-

- A. परिवर्ती कीमत निर्धारण
- B. भेदन कीमत निर्धारण
- C. स्किमिंग कीमत निर्धारण
- D. स्थिर लागत कीमत निर्धारण
- E. लागत जमा कीमत निर्धारण

निम्नलिखित विकल्पों में से सही उत्तर का चयन कीजिए।

1. केवल C और E
2. केवल A और B
3. केवल B और D
4. केवल C और D

Options :

- 485584134029. 1
- 485584134030. 2
- 485584134031. 3
- 485584134032. 4

Question Number : 144 Question Id : 48558433509 Question Type : MCQ Option Shuffling : No Is Question Mandatory : No Calculator : None Response Time : N.A Think Time : N.A Minimum Instruction Time : 0

Correct Marks : 5 Wrong Marks : 1

Question Key Details :

Key	Value
Comprehension	Comp1

Case Study (41-45):

Vibha had created a unique all weather jackets which had solar panels embedded in it. The USP of the jacket was that, harnessing the solar energy it could keep the jacket warm like a heater and cold like an air conditioner depending on the weather. Her market was the youth who came out of the comfort of their homes to stay in hostels. The name of her product was 'TURN COAT' which was beautifully written in comic sans font outside her showroom in FLD Mall. The name had a rising sun next to it making it an attractive composition to look at. Vibha was reading a lot of literature on the promotion strategies that she could use. She had already fixed a public appearance by the superstar Ralia Kapoor at her showroom in 15 days. She opened up Instagram and Twitter accounts in the name of 'TURN COAT'. She got the name of the product and the symbol of the rising sun printed on the parking ticket, that were collected by customers coming to the mall. While deciding on the pricing she was suggested by her mentor to keep the price very high to recover her R & D costs spent on developing the product. She was a little hesitant to do so and decided to price TURN COAT by covering the cost of producing it plus with reasonable profits

The name of the product and the symbol printed on the parking tickets is an example of :

1. Above-the-line approach
2. Public Relations
3. Ambient (Media Mix)
4. Business Promotion (Sales promotion)

Options :

- 485584134033. 1
- 485584134034. 2
- 485584134035. 3
- 485584134036. 4

Question Number : 144 Question Id : 48558433509 Question Type : MCQ Option Shuffling : No Is Question Mandatory : No Calculator : None Response Time : N.A Think Time : N.A Minimum Instruction Time : 0

Correct Marks : 5 Wrong Marks : 1

Question Key Details :

Key	Value
Comprehension	Comp1

केस अध्ययन (41-45)

विभा ने हर मौसम में काम आने वाला एक अनोखा जैकेट बनाया था जिसमें सौर पैनल लगा था। जैकेट की यू एस पी (अद्वितीय बिक्री प्रस्ताव) यह था कि मौसम के अनुसार यह सौर ऊर्जा का उपयोग करके जैकेट को हीटर की तरह गर्म और एयर कंडीशनर की तरह ठंडा रख सकता था। उसका बाज़ार वह युवा था जो घर से बाहर हॉस्टल में रहते हैं। उसके उत्पाद का नाम 'टर्न कोट' था जो कॉमिक सांन्स लिपि में बड़ी सुंदरता से एफ एल डी माल में उसके शो रूम के बाहर लिखा गया था।

नाम के आगे एक उगता सूरज था जो देखने में इसको एक सुंदर रचना बनाता था। विभा प्रयोग की जा सकने वाली प्रचार रणनीतियों पर साहित्य का अध्ययन कर रही थी। उसने 15 दिनों में अपने शोरूम में सुपर स्टार रालिया कपूर की सार्वजनिक उपस्थिति पहले ही तय कर दी थी। उसने 'टर्न कोट' नाम से इंस्टाग्राम और ट्विटर अकाउंट खोले। उसने माल आने वाले ग्राहकों के पार्किंग टिकट पर उत्पाद का नाम और उगते सूरज का चिन्ह मुद्रित कराया। कीमत निर्धारित करते समय उसे उसके मॉडल द्वारा ऊंची कीमत रखने का सुझाव दिया गया ताकि वह उत्पाद के निर्माण पर खर्च हुई अपने अनुसंधान एवं विकास लागत (आर एंड डी) को वसूल कर सके। वह ऐसा करने में थोड़ी झिझक रही थी, इसलिए उसने इसके उत्पादन की लागत और उचित लाभ को कवर करते हुए 'टर्न कोट' की कीमत निर्धारित करने का निर्णय किया।

पार्किंग टिकट पर छपा हुआ उत्पाद का नाम और चिन्ह किसके उदाहरण है :

1. रेखा से ऊपर उपागम
2. जन संपर्क
3. परिवेश (मीडिया मिश्रण)
4. व्यवसाय प्रचार (बिक्री प्रचार)

Options :

485584134033. 1
485584134034. 2
485584134035. 3
485584134036. 4

Question Number : 145 Question Id : 48558433510 Question Type : MCQ Option Shuffling : No Is Question Mandatory : No Calculator : None Response Time : N.A Think Time : N.A Minimum Instruction Time : 0

Correct Marks : 5 Wrong Marks : 1

Question Key Details :

Key	Value
Comprehension	Comp1

Case Study (41-45):

Vibha had created a unique all weather jackets which had solar panels embedded in it. The USP of the jacket was that, harnessing the solar energy it could keep the jacket warm like a heater and cold like an air conditioner depending on the weather. Her market was the youth who came out of the comfort of their homes to stay in hostels. The name of her product was 'TURN COAT' which was beautifully written in comic sans font outside her showroom in FLD Mall. The name had a rising sun next to it making it an attractive composition to look at. Vibha was reading a lot of literature on the promotion strategies that she could use. She had already fixed a public appearance by the superstar Ralia Kapoor at her showroom in 15 days. She opened up Instagram and Twitter accounts in the name of 'TURN COAT'. She got the name of the product and the symbol of the rising sun printed on the parking ticket, that were collected by customers coming to the mall. While deciding on the pricing she was suggested by her mentor to keep the price very high to recover her R & D costs spent on developing the product. She was a little hesitant to do so and decided to price TURN COAT by covering the cost of producing it plus with reasonable profits

Promoting her product on instagram and twitter accounts would fall under:

1. Above the line approach
2. Below the line approach
3. Through the line approach
4. Indirect sales strategy approach

Options :

- 485584134037. 1
- 485584134038. 2
- 485584134039. 3
- 485584134040. 4

Question Number : 145 Question Id : 48558433510 Question Type : MCQ Option Shuffling : No Is Question Mandatory : No Calculator : None Response Time : N.A Think Time : N.A Minimum Instruction Time : 0

Correct Marks : 5 Wrong Marks : 1

Question Key Details :

Key	Value
Comprehension	Comp1

केस अध्ययन (41-45)

विभा ने हर मौसम में काम आने वाला एक अनोखा जैकेट बनाया था जिसमें सौर पैनल लगा था। जैकेट की यू एस पी (अद्वितीय बिक्री प्रस्ताव) यह था कि मौसम के अनुसार यह सौर ऊर्जा का उपयोग करके जैकेट को हीटर की तरह गर्म और एयर कंडीशनर की तरह ठंडा रख सकता था। उसका बाज़ार वह युवा था जो घर से बाहर हॉस्टल में रहते हैं। उसके उत्पाद का नाम 'टर्न कोट' था जो कॉमिक सांस् लिपि में बड़ी सुंदरता से एफ एल डी माल में उसके शो रूम के बाहर लिखा गया था।

नाम के आगे एक उगता सूरज था जो देखने में इसको एक सुंदर रचना बनाता था। विभा प्रयोग की जा सकने वाली प्रचार रणनीतियों पर साहित्य का अध्ययन कर रही थी। उसने 15 दिनों में अपने शोरूम में सुपर स्टार रालिया कपूर की सार्वजनिक उपस्थिति पहले ही तय कर दी थी। उसने 'टर्न कोट' नाम से इंस्टाग्राम और ट्विटर अकाउंट खोले। उसने माल आने वाले ग्राहकों के पार्किंग टिकट पर उत्पाद का नाम और उगते सूरज का चिन्ह मुद्रित कराया। कीमत निर्धारित करते समय उसे उसके मॉडल द्वारा ऊंची कीमत रखने का सुझाव दिया गया ताकि वह उत्पाद के निर्माण पर खर्च हुई अपने अनुसंधान एवं विकास लागत (आर एंड डी) को वसूल कर सके। वह ऐसा करने में थोड़ी झिझक रही थी, इसलिए उसने इसके उत्पादन की लागत और उचित लाभ को कवर करते हुए 'टर्न कोट' की कीमत निर्धारित करने का निर्णय किया।

इंस्टाग्राम और ट्विटर पर अपने उत्पाद का प्रचार किसके अधीन आयेगा :

1. रेखा से ऊपर उपागम
2. रेखा से नीचे उपागम
3. रेखा के साथ उपागम
4. अप्रत्यक्ष बिक्री रणनीति उपागम

Options :

485584134037. 1
485584134038. 2
485584134039. 3
485584134040. 4

Sub-Section Number :

3

Sub-Section Id :

4855842424

Question Shuffling Allowed :

No

Is Section Default? :

null

Question Number : 146 Question Id : 48558433511 Question Type : MCQ Option Shuffling : No Is Question Mandatory : No Calculator : None Response Time : N.A Think Time : N.A Minimum Instruction Time : 0

Correct Marks : 5 Wrong Marks : 1

Question Key Details :

Key	Value
Comprehension	Comp2

Mergers: Read the case and answer the questions (46-50)

Gaurav owned an event management company called 'Lotus Ltd.' in Mumbai. He used to organise weddings, meetings, conferences, etc. These events were full of activities, music, food and entertainment. He used to outsource decoration material, food as well as entertainment from different vendors.

Ms. Geetika was an owner of catering and decoration company called Miles Ltd. in Mumbai. She used to cater the food and decoration needs of various customers such as corporate as well as family functions.

Gaurav & Geetika were performing well in their respective businesses until covid-19 lockdown was introduced. Due to lack of demand for food, decoration and events, both the companies started facing losses. As the lockdown was lifted, nearly after a year, both Gaurav and Geetika were facing problems in managing their increasing operational costs with lesser number of customers. As they were planning to look for better business opportunity, they got to meet each other at an 'exponential' organised by trades of Mumbai at BKC ground.

In this 'exponential', there were different traders sharing their business ideas with each other. Hence, it was here that Gaurav and Geetika decided to restart their business by merging their operations with a new company name. 'G² Lotus Miles Ltd'. They both shared their contacts of vendors and customers with each other and started getting order for events, food, decoration, entertainment, etc. Their business started blooming as their costs were lesser and more customers with demand of services given by Gaurav and Geetika.

Now its been two years that both of them have grown their business into other cities of Maharashtra like, Pune, Ahmednagar and Nagpur under the company name of 'G² Lotus Miles Ltd'. The company is growing with increased annual sales of 30%.

Which of the following is applicable in case of "G² Lotus Miles ltd"?

1. Product extension merger
2. Market extension merger
3. Vertical merger
4. Horizontal merger

Options :

- 485584134041. 1
- 485584134042. 2
- 485584134043. 3
- 485584134044. 4

Question Number : 146 Question Id : 48558433511 Question Type : MCQ Option Shuffling : No Is Question Mandatory : No Calculator : None Response Time : N.A Think Time : N.A Minimum Instruction Time : 0

Correct Marks : 5 Wrong Marks : 1

Question Key Details :

Key	Value
Comprehension	Comp2

विलय : केस का अध्ययन कीजिए और प्रश्नों के उत्तर दीजिए (46-50)

गौरव मुंबई में 'लोटस लि.' नामक इवेंट मैनेजमेंट कंपनी का मालिक है। वह विवाह समारोह, बैठक, सम्मेलन आदि का आयोजन करता रहता था। यह आयोजन गतिविधियों, संगीत, भोजन और मनोरंजन से भरपूर होते थे। वह सजावट का समान, भोजन और मनोरंजन विभिन्न विक्रेताओं से आउटसोर्स करता था।

मिस. गितिका मुंबई में माइल्स लि. नामक खानपान और सजावट कंपनी की मालिक थी। वह कॉर्पोरेट तथा पारिवारिक आयोजनों हेतु विभिन्न ग्राहकों की भोजन और सजावट संबंधी आवश्यकताओं को पूरा करती थी।

कोविड 19 लॉकडाउन लगने से पहले गौरव और गितिका अपने अपने काम में अच्छा प्रदर्शन कर रहे थे। भोजन सजावट और आयोजनों की मांग में कमी के कारण दोनों कंपनियों को हानियाँ होने लगी। लगभग एक वर्ष बाद जब लॉकडाउन हटाया गया तो गौरव और गितिका कम ग्राहकों सहित बढ़ी हुई परिचालन लागत के प्रबंधन में कठिनाइयाँ अनुभव कर रहे थे। जब वे बेहतर व्यवसाय अवसर की तलाश की योजना बना रहे थे, वे बी के सी ग्राउन्ड में मुंबई के व्यापारियों द्वारा आयोजित एक 'एक्सपोनेंशियल' में एक दूसरे से मिले।

इस एक्सपोनेंशियल में बहुत से व्यापारी थे जो एक दूसरे के साथ अपने व्यापारिक विचार साझा कर रहे थे। इस प्रकार यहाँ से गौरव और गितिका ने अपने परिचालनों के विलय के द्वारा एक नये नाम "G² लोटस माइल्स लि." से अपना व्यवसाय पुनः प्रारंभ करने का निर्णय लिया।

उन्होंने एक दूसरे से विक्रेताओं और ग्राहकों के संपर्क साझा किये और आयोजन हेतु भोजन, सजावट और मनोरंजन के ऑर्डर लेने शुरू किये। उनका व्यवसाय फल फूलने लगा क्योंकि उनकी लागत कम हो गई थी और गौरव और गितिका द्वारा दी जाने वाली सेवाओं की माँग करने वाले ग्राहकों की संख्या बढ़ गई थी।

अब दो वर्ष हो चुके हैं और उन्होंने अपने व्यवसाय 'G² लोटस माइल्स लि.' नाम के साथ महाराष्ट्र के अन्य शहरों जैसे पुणे, अहमदनगर और नागपुर में भी फैला लिया है। कंपनी 30% बढ़ी हुई वार्षिक बिक्री के साथ प्रगति कर रही है।

"G² लोटस माइल्स लि." के केस में निम्न में से कौन सा लागू होता है?

1. उत्पाद विस्तार विलय
2. बाज़ार विस्तार विलय
3. ऊर्ध्वधर विलय
4. क्षैतिज विलय

Options :

485584134041. 1
485584134042. 2
485584134043. 3
485584134044. 4

Question Number : 147 Question Id : 48558433512 Question Type : MCQ Option Shuffling : No Is Question Mandatory : No Calculator : None Response Time : N.A Think Time : N.A Minimum Instruction Time : 0

Correct Marks : 5 Wrong Marks : 1

Question Key Details :

Key	Value
Comprehension	Comp2

Mergers: Read the case and answer the questions (46-50)

Gaurav owned an event management company called 'Lotus Ltd.' in Mumbai. He used to organise weddings, meetings, conferences, etc. These events were full of activities, music, food and entertainment. He used to outsource decoration material, food as well as entertainment from different vendors.

Ms. Geetika was an owner of catering and decoration company called Miles Ltd. in Mumbai. She used to cater the food and decoration needs of various customers such as corporate as well as family functions.

Gaurav & Geetika were performing well in their respective businesses until covid-19 lockdown was introduced. Due to lack of demand for food, decoration and events, both the companies started facing losses. As the lockdown was lifted, nearly after a year, both Gaurav and Geetika were facing problems in managing their increasing operational costs with lesser number of customers. As they were planning to look for better business opportunity, they got to meet each other at an 'exponential' organised by trades of Mumbai at BKC ground.

In this 'exponential', there were different traders sharing their business ideas with each other. Hence, it was here that Gaurav and Geetika decided to restart their business by merging their operations with a new company name. 'G² Lotus Miles Ltd'. They both shared their contacts of vendors and customers with each other and started getting order for events, food, decoration, entertainment, etc. Their business started blooming as their costs were lesser and more customers with demand of services given by Gaurav and Geetika.

Now its been two years that both of them have grown their business into other cities of Maharashtra like, Pune, Ahmednagar and Nagpur under the company name of 'G² Lotus Miles Ltd'. The company is growing with increased annual sales of 30%.

The new company so formed "G² Lotus Miles Ltd" is an example of:

1. Acquisition
2. Franchising
3. Amalgamation
4. Absorption

Options :

- 485584134045. 1
- 485584134046. 2
- 485584134047. 3
- 485584134048. 4

Question Number : 147 Question Id : 48558433512 Question Type : MCQ Option Shuffling : No Is Question Mandatory : No Calculator : None Response Time : N.A Think Time : N.A Minimum Instruction Time : 0

Correct Marks : 5 Wrong Marks : 1

Question Key Details :

Key	Value
Comprehension	Comp2

विलय : केस का अध्ययन कीजिए और प्रश्नों के उत्तर दीजिए (46-50)

गौरव मुंबई में 'लोटस लि.' नामक इवेंट मैनेजमेंट कंपनी का मालिक है। वह विवाह समारोह, बैठक, सम्मेलन आदि का आयोजन करता रहता था। यह आयोजन गतिविधियों, संगीत, भोजन और मनोरंजन से भरपूर होते थे। वह सजावट का समान, भोजन और मनोरंजन विभिन्न विक्रेताओं से आउटसोर्स करता था।

मिस. गितिका मुंबई में माइल्स लि. नामक खानपान और सजावट कंपनी की मालिक थी। वह कॉर्पोरेट तथा पारिवारिक आयोजनों हेतु विभिन्न ग्राहकों की भोजन और सजावट संबंधी आवश्यकताओं को पूरा करती थी।

कोविड 19 लॉकडाउन लगने से पहले गौरव और गितिका अपने अपने काम में अच्छा प्रदर्शन कर रहे थे। भोजन सजावट और आयोजनों की मांग में कमी के कारण दोनों कंपनियों को हानियाँ होने लगी। लगभग एक वर्ष बाद जब लॉकडाउन हटाया गया तो गौरव और गितिका कम ग्राहकों सहित बढ़ी हुई परिचालन लागत के प्रबंधन में कठिनाइयाँ अनुभव कर रहे थे। जब वे बेहतर व्यवसाय अवसर की तलाश की योजना बना रहे थे, वे बी के सी ग्राउन्ड में मुंबई के व्यापारियों द्वारा आयोजित एक 'एक्सपोनेंशियल' में एक दूसरे से मिले।

इस एक्सपोनेंशियल में बहुत से व्यापारी थे जो एक दूसरे के साथ अपने व्यापारिक विचार साझा कर रहे थे। इस प्रकार यहाँ से गौरव और गितिका ने अपने परिचालनों के विलय के द्वारा एक नये नाम "G² लोटस माइल्स लि." से अपना व्यवसाय पुनः प्रारंभ करने का निर्णय लिया।

उन्होंने एक दूसरे से विक्रेताओं और ग्राहकों के संपर्क साझा किये और आयोजन हेतु भोजन, सजावट और मनोरंजन के ऑर्डर लेने शुरू किये। उनका व्यवसाय फल फूलने लगा क्योंकि उनकी लागत कम हो गई थी और गौरव और गितिका द्वारा दी जाने वाली सेवाओं की माँग करने वाले ग्राहकों की संख्या बढ़ गई थी।

अब दो वर्ष हो चुके हैं और उन्होंने अपने व्यवसाय 'G² लोटस माइल्स लि.' नाम के साथ महाराष्ट्र के अन्य शहरों जैसे पुणे, अहमदनगर और नागपुर में भी फैला लिया है। कंपनी 30% बढ़ी हुई वार्षिक बिक्री के साथ प्रगति कर रही है।

बनाई गई नई कंपनी "G² लोटस माइल्स लि." एक उदाहरण है :

1. अधिग्रहण
2. फ्रेंचाइजिंग
3. समामेलन
4. अवशोषण

Options :

485584134045. 1
485584134046. 2
485584134047. 3
485584134048. 4

Question Number : 148 Question Id : 48558433513 Question Type : MCQ Option Shuffling : No Is Question Mandatory : No Calculator : None Response Time : N.A Think Time : N.A Minimum Instruction Time : 0

Correct Marks : 5 Wrong Marks : 1

Question Key Details :

Key	Value
Comprehension	Comp2

Mergers: Read the case and answer the questions (46-50)

Gaurav owned an event management company called 'Lotus Ltd.' in Mumbai. He used to organise weddings, meetings, conferences, etc. These events were full of activities, music, food and entertainment. He used to outsource decoration material, food as well as entertainment from different vendors.

Ms. Geetika was an owner of catering and decoration company called Miles Ltd. in Mumbai. She used to cater the food and decoration needs of various customers such as corporate as well as family functions.

Gaurav & Geetika were performing well in their respective businesses until covid-19 lockdown was introduced. Due to lack of demand for food, decoration and events, both the companies started facing losses. As the lockdown was lifted, nearly after a year, both Gaurav and Geetika were facing problems in managing their increasing operational costs with lesser number of customers. As they were planning to look for better business opportunity, they got to meet each other at an 'exponential' organised by trades of Mumbai at BKC ground.

In this 'exponential', there were different traders sharing their business ideas with each other. Hence, it was here that Gaurav and Geetika decided to restart their business by merging their operations with a new company name. 'G² Lotus Miles Ltd'. They both shared their contacts of vendors and customers with each other and started getting order for events, food, decoration, entertainment, etc. Their business started blooming as their costs were lesser and more customers with demand of services given by Gaurav and Geetika.

Now its been two years that both of them have grown their business into other cities of Maharashtra like, Pune, Ahmednagar and Nagpur under the company name of 'G² Lotus Miles Ltd'. The company is growing with increased annual sales of 30%.

"G² Lotus Miles Ltd." is related to-

1. Manufacturing
2. Service
3. Distribution
4. Trading

Options :

- 485584134049. 1
- 485584134050. 2
- 485584134051. 3
- 485584134052. 4

Question Number : 148 Question Id : 48558433513 Question Type : MCQ Option Shuffling : No Is Question Mandatory : No Calculator : None Response Time : N.A Think Time : N.A Minimum Instruction Time : 0

Correct Marks : 5 Wrong Marks : 1

Question Key Details :

Key	Value
Comprehension	Comp2

विलय : केस का अध्ययन कीजिए और प्रश्नों के उत्तर दीजिए (46-50)

गौरव मुंबई में 'लोटस लि.' नामक इवेंट मैनेजमेंट कंपनी का मालिक है। वह विवाह समारोह, बैठक, सम्मेलन आदि का आयोजन करता रहता था। यह आयोजन गतिविधियों, संगीत, भोजन और मनोरंजन से भरपूर होते थे। वह सजावट का समान, भोजन और मनोरंजन विभिन्न विक्रेताओं से आउटसोर्स करता था।

मिस. गितिका मुंबई में माइल्स लि. नामक खानपान और सजावट कंपनी की मालिक थी। वह कॉर्पोरेट तथा पारिवारिक आयोजनों हेतु विभिन्न ग्राहकों की भोजन और सजावट संबंधी आवश्यकताओं को पूरा करती थी।

कोविड 19 लॉकडाउन लगने से पहले गौरव और गितिका अपने अपने काम में अच्छा प्रदर्शन कर रहे थे। भोजन सजावट और आयोजनों की मांग में कमी के कारण दोनों कंपनियों को हानियाँ होने लगी। लगभग एक वर्ष बाद जब लॉकडाउन हटाया गया तो गौरव और गितिका कम ग्राहकों सहित बढ़ी हुई परिचालन लागत के प्रबंधन में कठिनाइयाँ अनुभव कर रहे थे। जब वे बेहतर व्यवसाय अवसर की तलाश की योजना बना रहे थे, वे बी के सी ग्राउन्ड में मुंबई के व्यापारियों द्वारा आयोजित एक 'एक्सपोनेंशियल' में एक दूसरे से मिले।

इस एक्सपोनेंशियल में बहुत से व्यापारी थे जो एक दूसरे के साथ अपने व्यापारिक विचार साझा कर रहे थे। इस प्रकार यहाँ से गौरव और गितिका ने अपने परिचालनों के विलय के द्वारा एक नये नाम "G² लोटस माइल्स लि." से अपना व्यवसाय पुनः प्रारंभ करने का निर्णय लिया।

उन्होंने एक दूसरे से विक्रेताओं और ग्राहकों के संपर्क साझा किये और आयोजन हेतु भोजन, सजावट और मनोरंजन के ऑर्डर लेने शुरू किये। उनका व्यवसाय फल फूलने लगा क्योंकि उनकी लागत कम हो गई थी और गौरव और गितिका द्वारा दी जाने वाली सेवाओं की माँग करने वाले ग्राहकों की संख्या बढ़ गई थी।

अब दो वर्ष हो चुके हैं और उन्होंने अपने व्यवसाय 'G² लोटस माइल्स लि.' नाम के साथ महाराष्ट्र के अन्य शहरों जैसे पुणे, अहमदनगर और नागपुर में भी फैला लिया है। कंपनी 30% बढ़ी हुई वार्षिक बिक्री के साथ प्रगति कर रही है।

"G² लोटस माइल्स लि." का संबंध है-

1. विनिर्माण
2. सेवा
3. वितरण
4. व्यापार

Options :

485584134049. 1
485584134050. 2
485584134051. 3
485584134052. 4

Question Number : 149 Question Id : 48558433514 Question Type : MCQ Option Shuffling : No Is Question Mandatory : No Calculator : None Response Time : N.A Think Time : N.A Minimum Instruction Time : 0

Correct Marks : 5 Wrong Marks : 1

Question Key Details :

Key	Value
Comprehension	Comp2

Mergers: Read the case and answer the questions (46-50)

Gaurav owned an event management company called 'Lotus Ltd.' in Mumbai. He used to organise weddings, meetings, conferences, etc. These events were full of activities, music, food and entertainment. He used to outsource decoration material, food as well as entertainment from different vendors.

Ms. Geetika was an owner of catering and decoration company called Miles Ltd. in Mumbai. She used to cater the food and decoration needs of various customers such as corporate as well as family functions.

Gaurav & Geetika were performing well in their respective businesses until covid-19 lockdown was introduced. Due to lack of demand for food, decoration and events, both the companies started facing losses. As the lockdown was lifted, nearly after a year, both Gaurav and Geetika were facing problems in managing their increasing operational costs with lesser number of customers. As they were planning to look for better business opportunity, they got to meet each other at an 'exponential' organised by trades of Mumbai at BKC ground.

In this 'exponential', there were different traders sharing their business ideas with each other. Hence, it was here that Gaurav and Geetika decided to restart their business by merging their operations with a new company name. 'G² Lotus Miles Ltd'. They both shared their contacts of vendors and customers with each other and started getting order for events, food, decoration, entertainment, etc. Their business started blooming as their costs were lesser and more customers with demand of services given by Gaurav and Geetika.

Now it's been two years that both of them have grown their business into other cities of Maharashtra like, Pune, Ahmednagar and Nagpur under the company name of 'G² Lotus Miles Ltd'. The company is growing with increased annual sales of 30%.

Match List I with List II

LIST I		LIST II	
A.	Event Management Company	I.	Miles Ltd
B.	External Expansion	II.	Lotus Ltd.
C.	Operational synergy	III.	Merger
D.	Catering and decoration company	IV.	G ² Lotus Miles Ltd

Choose the correct answer from the options given below:

1. A-I, B-III, C-II, D-IV
2. A-II, B-III, C-IV, D-I
3. A-III, B-II, C-IV, D-I
4. A-IV, B-III, C-II, D-I

Options :

485584134053. 1
485584134054. 2
485584134055. 3
485584134056. 4

Question Number : 149 Question Id : 48558433514 Question Type : MCQ Option Shuffling : No Is Question Mandatory : No Calculator : None Response Time : N.A Think Time : N.A Minimum Instruction Time : 0

Correct Marks : 5 Wrong Marks : 1

Question Key Details :

Key	Value
Comprehension	Comp2

विलय : केस का अध्ययन कीजिए और प्रश्नों के उत्तर दीजिए (46-50)

गौरव मुंबई में 'लोटस लि.' नामक इवेंट मैनेजमेंट कंपनी का मालिक है। वह विवाह समारोह, बैठक, सम्मेलन आदि का आयोजन करता रहता था। यह आयोजन गतिविधियों, संगीत, भोजन और मनोरंजन से भरपूर होते थे। वह सजावट का समान, भोजन और मनोरंजन विभिन्न विक्रेताओं से आउटसोर्स करता था।

मिस. गितिका मुंबई में माइल्स लि. नामक खानपान और सजावट कंपनी की मालिक थी। वह कॉर्पोरेट तथा पारिवारिक आयोजनों हेतु विभिन्न ग्राहकों की भोजन और सजावट संबंधी आवश्यकताओं को पूरा करती थी।

कोविड 19 लॉकडाउन लगने से पहले गौरव और गितिका अपने अपने काम में अच्छा प्रदर्शन कर रहे थे। भोजन सजावट और आयोजनों की मांग में कमी के कारण दोनों कंपनियों को हानियाँ होने लगी। लगभग एक वर्ष बाद जब लॉकडाउन हटाया गया तो गौरव और गितिका कम ग्राहकों सहित बढ़ी हुई परिचालन लागत के प्रबंधन में कठिनाइयाँ अनुभव कर रहे थे। जब वे बेहतर व्यवसाय अवसर की तलाश की योजना बना रहे थे, वे बी के सी ग्राउन्ड में मुंबई के व्यापारियों द्वारा आयोजित एक 'एक्सपोनेंशियल' में एक दूसरे से मिले।

इस एक्सपोनेंशियल में बहुत से व्यापारी थे जो एक दूसरे के साथ अपने व्यापारिक विचार साझा कर रहे थे। इस प्रकार यहाँ से गौरव और गितिका ने अपने परिचालनों के विलय के द्वारा एक नये नाम "G² लोटस माइल्स लि." से अपना व्यवसाय पुनः प्रारंभ करने का निर्णय लिया।

उन्होंने एक दूसरे से विक्रेताओं और ग्राहकों के संपर्क साझा किये और आयोजन हेतु भोजन, सजावट और मनोरंजन के ऑर्डर लेने शुरू किये। उनका व्यवसाय फल फूलने लगा क्योंकि उनकी लागत कम हो गई थी और गौरव और गितिका द्वारा दी जाने वाली सेवाओं की माँग करने वाले ग्राहकों की संख्या बढ़ गई थी।

अब दो वर्ष हो चुके हैं और उन्होंने अपने व्यवसाय 'G² लोटस माइल्स लि.' नाम के साथ महाराष्ट्र के अन्य शहरों जैसे पुणे, अहमदनगर और नागपुर में भी फैला लिया है। कंपनी 30% बढ़ी हुई वार्षिक बिक्री के साथ प्रगति कर रही है।

सूची I का सूची II से मिलान कीजिए

सूची I		सूची II	
A.	इवेंट मैनेजमेंट कंपनी	I.	माइल्स लि.
B.	बाह्य विस्तार	II.	लोटस लि.
C.	परिचालन तालमेल	III.	मर्जर (विलय)
D.	खानपान एवं सजावट कंपनी	IV.	G ² लोटस माइल्स लि.

निम्नलिखित विकल्पों में से सही उत्तर का चयन कीजिए :

1. A-I, B-III, C-II, D-IV
2. A-II, B-III, C-IV, D-I
3. A-III, B-II, C-IV, D-I
4. A-IV, B-III, C-II, D-I

Options :

485584134053. 1
485584134054. 2
485584134055. 3
485584134056. 4

Question Number : 150 Question Id : 48558433515 Question Type : MCQ Option Shuffling : No Is Question Mandatory : No Calculator : None Response Time : N.A Think Time : N.A Minimum Instruction Time : 0

Correct Marks : 5 Wrong Marks : 1

Question Key Details :

Key	Value
Comprehension	Comp2

Mergers: Read the case and answer the questions (46-50)

Gaurav owned an event management company called 'Lotus Ltd.' in Mumbai. He used to organise weddings, meetings, conferences, etc. These events were full of activities, music, food and entertainment. He used to outsource decoration material, food as well as entertainment from different vendors.

Ms. Geetika was an owner of catering and decoration company called Miles Ltd. in Mumbai. She used to cater the food and decoration needs of various customers such as corporate as well as family functions.

Gaurav & Geetika were performing well in their respective businesses until covid-19 lockdown was introduced. Due to lack of demand for food, decoration and events, both the companies started facing losses. As the lockdown was lifted, nearly after a year, both Gaurav and Geetika were facing problems in managing their increasing operational costs with lesser number of customers. As they were planning to look for better business opportunity, they got to meet each other at an 'exponential' organised by trades of Mumbai at BKC ground.

In this 'exponential', there were different traders sharing their business ideas with each other. Hence, it was here that Gaurav and Geetika decided to restart their business by merging their operations with a new company name. 'G² Lotus Miles Ltd'. They both shared their contacts of vendors and customers with each other and started getting order for events, food, decoration, entertainment, etc. Their business started blooming as their costs were lesser and more customers with demand of services given by Gaurav and Geetika.

Now its been two years that both of them have grown their business into other cities of Maharashtra like, Pune, Ahmednagar and Nagpur under the company name of 'G² Lotus Miles Ltd'. The company is growing with increased annual sales of 30%.

If Gaurav could raise sufficient funds to acquire 'Miles Ltd'. This acquisition would be called:

1. Friendly Acquisition
2. Reverse Acquisition
3. Back flip Acquisition
4. Hostile Acquisition

Options :

485584134057. 1

485584134058. 2

485584134059. 3

485584134060. 4

Question Number : 150 Question Id : 48558433515 Question Type : MCQ Option Shuffling : No Is Question Mandatory : No Calculator : None Response Time : N.A Think Time : N.A Minimum Instruction Time : 0

Correct Marks : 5 Wrong Marks : 1

Question Key Details :

Key	Value
Comprehension	Comp2

विलय : केस का अध्ययन कीजिए और प्रश्नों के उत्तर दीजिए (46-50)

गौरव मुंबई में 'लोटस लि.' नामक इवेंट मैनेजमेंट कंपनी का मालिक है। वह विवाह समारोह, बैठक, सम्मेलन आदि का आयोजन करता रहता था। यह आयोजन गतिविधियों, संगीत, भोजन और मनोरंजन से भरपूर होते थे। वह सजावट का समान, भोजन और मनोरंजन विभिन्न विक्रेताओं से आउटसोर्स करता था।

मिस. गितिका मुंबई में माइल्स लि. नामक खानपान और सजावट कंपनी की मालिक थी। वह कॉर्पोरेट तथा पारिवारिक आयोजनों हेतु विभिन्न ग्राहकों की भोजन और सजावट संबंधी आवश्यकताओं को पूरा करती थी।

कोविड 19 लॉकडाउन लगने से पहले गौरव और गितिका अपने अपने काम में अच्छा प्रदर्शन कर रहे थे। भोजन सजावट और आयोजनों की मांग में कमी के कारण दोनों कंपनियों को हानियाँ होने लगी। लगभग एक वर्ष बाद जब लॉकडाउन हटाया गया तो गौरव और गितिका कम ग्राहकों सहित बढ़ी हुई परिचालन लागत के प्रबंधन में कठिनाइयाँ अनुभव कर रहे थे। जब वे बेहतर व्यवसाय अवसर की तलाश की योजना बना रहे थे, वे बी के सी ग्राउन्ड में मुंबई के व्यापारियों द्वारा आयोजित एक 'एक्सपोनेंशियल' में एक दूसरे से मिले।

इस एक्सपोनेंशियल में बहुत से व्यापारी थे जो एक दूसरे के साथ अपने व्यापारिक विचार साझा कर रहे थे। इस प्रकार यहाँ से गौरव और गितिका ने अपने परिचालनों के विलय के द्वारा एक नये नाम "G² लोटस माइल्स लि." से अपना व्यवसाय पुनः प्रारंभ करने का निर्णय लिया।

उन्होंने एक दूसरे से विक्रेताओं और ग्राहकों के संपर्क साझा किये और आयोजन हेतु भोजन, सजावट और मनोरंजन के ऑर्डर लेने शुरू किये। उनका व्यवसाय फल फूलने लगा क्योंकि उनकी लागत कम हो गई थी और गौरव और गितिका द्वारा दी जाने वाली सेवाओं की माँग करने वाले ग्राहकों की संख्या बढ़ गई थी।

अब दो वर्ष हो चुके हैं और उन्होंने अपने व्यवसाय 'G² लोटस माइल्स लि.' नाम के साथ महाराष्ट्र के अन्य शहरों जैसे पुणे, अहमदनगर और नागपुर में भी फैला लिया है। कंपनी 30% बढ़ी हुई वार्षिक बिक्री के साथ प्रगति कर रही है।

यदि गौरव "माइल्स लि." के अधिग्रहण के लिये आवश्यक फंड जुटा पाता तो यह अधिग्रहण कहलाता :

1. मित्रवत अधिग्रहण
2. विपरीत अधिग्रहण
3. वैकल्पिक अधिग्रहण
4. शत्रुतापूर्ण अधिग्रहण

Options :

485584134057. 1
485584134058. 2
485584134059. 3
485584134060. 4

Geography

Group Number :	7
Group Id :	485584745
Group Maximum Duration :	45

Group Minimum Duration : 45
Show Attended Group? : No
Edit Attended Group? : No
Break time : 0
Group Marks : 200
Is this Group for Examiner? : No
Examiner permission : Cant View
Show Progress Bar? : No

Geography

Section Id : 485584859
Section Number : 1
Section type : Online
Mandatory or Optional : Mandatory
Number of Questions : 50
Number of Questions to be attempted : 40
Section Marks : 200
Enable Mark as Answered Mark for Review and Clear Response : Yes
Maximum Instruction Time : 0
Sub-Section Number : 1
Sub-Section Id : 4855842425
Question Shuffling Allowed : Yes
Is Section Default? : null

Question Number : 151 Question Id : 48558433216 Question Type : MCQ Option Shuffling : No Is Question Mandatory : No Calculator : None Response Time : N.A Think Time : N.A Minimum Instruction Time : 0

Correct Marks : 5 Wrong Marks : 1

Question Key Details :

Key	Value
Comprehension	MCQ

"Human Geography is the synthetic study of relationship between human societies and earth's surface" among the following who gave the above definition on Human Geography.

1. Paul Vidal de la Blache
2. Ellen C Semple
3. Ratzel
4. Ralph W. Emerson

Options :

485584132861. 1
485584132862. 2
485584132863. 3
485584132864. 4

Question Number : 151 Question Id : 48558433216 Question Type : MCQ Option Shuffling : No Is Question Mandatory : No Calculator : None Response Time : N.A Think Time : N.A Minimum Instruction Time : 0

Correct Marks : 5 Wrong Marks : 1

Question Key Details :

Key	Value
Comprehension	MCQ

"मानव भूगोल मानव समाजों और धरातल के बीच सम्बंधों का संश्लेषित अध्ययन है" मानव भूगोल की उपर्युक्त परिभाषा निम्न में से किसने दी?

1. पाल विडाल डी ला ब्लाश
2. एलन सी. सेंपल
3. रैटजेल
4. राल्फ डब्ल्यू एमरसन

Options :

485584132861. 1
485584132862. 2
485584132863. 3
485584132864. 4

Question Number : 152 Question Id : 48558433217 Question Type : MCQ Option Shuffling : No Is Question Mandatory : No Calculator : None Response Time : N.A Think Time : N.A Minimum Instruction Time : 0

Correct Marks : 5 Wrong Marks : 1

Question Key Details :

Key	Value
Comprehension	MCQ

Which one of the following is the name of Ethiopian capital?

1. Al Qahirah
2. Tehran
3. Canberra
4. Addis Ababa

Options :

485584132865. 1
485584132866. 2
485584132867. 3
485584132868. 4

Question Number : 152 Question Id : 48558433217 Question Type : MCQ Option Shuffling : No Is Question Mandatory : No Calculator : None Response Time : N.A Think Time : N.A Minimum Instruction Time : 0

Correct Marks : 5 Wrong Marks : 1

Question Key Details :

Key	Value
Comprehension	MCQ

निम्न में से कौन सा इथोपिया की राजधानी का नाम है?

1. अल काहिरा
2. तहरान
3. कैनबेरा
4. अदीस अबाबा

Options :

485584132865. 1
485584132866. 2
485584132867. 3
485584132868. 4

Question Number : 153 Question Id : 48558433218 Question Type : MCQ Option Shuffling : No Is Question Mandatory : No Calculator : None Response Time : N.A Think Time : N.A Minimum Instruction Time : 0

Correct Marks : 5 Wrong Marks : 1

Question Key Details :

Key	Value
Comprehension	MCQ

What is the percentage of world population living in urban areas in 2017?

1. 37%
2. 48%
3. 58%
4. 54%

Options :

485584132869. 1
485584132870. 2
485584132871. 3
485584132872. 4

Question Number : 153 Question Id : 48558433218 Question Type : MCQ Option Shuffling : No Is Question Mandatory : No Calculator : None Response Time : N.A Think Time : N.A Minimum Instruction Time : 0

Correct Marks : 5 Wrong Marks : 1

Question Key Details :

Key	Value
Comprehension	MCQ

नगरीय क्षेत्रों में रहने वाली जनसंख्या का प्रतिशत क्या 2017 में है?

1. 37%
2. 48%
3. 58%
4. 54%

Options :

485584132869. 1
485584132870. 2
485584132871. 3
485584132872. 4

Question Number : 154 Question Id : 48558433219 Question Type : MCQ Option Shuffling : No Is Question Mandatory : No Calculator : None Response Time : N.A Think Time : N.A Minimum Instruction Time : 0

Correct Marks : 5 Wrong Marks : 1

Question Key Details :

Key	Value
Comprehension	MCQ

Which one of the following is not the approach of human Geography?

1. Regional Analysis
2. Areal Differentiation
3. Technological Analysis
4. Post-Modernism

Options :

485584132873. 1
485584132874. 2
485584132875. 3
485584132876. 4

Question Number : 154 Question Id : 48558433219 Question Type : MCQ Option Shuffling : No Is Question Mandatory : No Calculator : None Response Time : N.A Think Time : N.A Minimum Instruction Time : 0

Correct Marks : 5 Wrong Marks : 1

Question Key Details :

Key	Value
Comprehension	MCQ

निम्न में से कौन सा मानव भूगोल का उपागम नहीं है?

1. प्रादेशिक विश्लेषण
2. क्षेत्रीय विभेदन
3. तकनीकों (प्रौद्योगिकी) विश्लेषण
4. उत्तर-आधुनिकवाद

Options :

485584132873. 1
485584132874. 2
485584132875. 3
485584132876. 4

Question Number : 155 Question Id : 48558433220 Question Type : MCQ Option Shuffling : No Is Question Mandatory : No Calculator : None Response Time : N.A Think Time : N.A Minimum Instruction Time : 0

Correct Marks : 5 Wrong Marks : 1

Question Key Details :

Key	Value
Comprehension	MCQ

Who introduced stop and go determinism?

1. Ratzel
2. Ellian sample
3. Griffith Taylor
4. Paul Vidal de la Blache

Options :

485584132877. 1
485584132878. 2
485584132879. 3
485584132880. 4

Question Number : 155 Question Id : 48558433220 Question Type : MCQ Option Shuffling : No Is Question Mandatory : No Calculator : None Response Time : N.A Think Time : N.A Minimum Instruction Time : 0

Correct Marks : 5 Wrong Marks : 1

Question Key Details :

Key	Value
Comprehension	MCQ

रूको और जाओ निश्चयवाद किसने प्रतिपादित किया?

1. रैटजेल
2. एलन सेम्पल
3. ग्रिफिथ टेलर
4. पॉल विडाल डी ला ब्लाश

Options :

485584132877. 1
485584132878. 2
485584132879. 3
485584132880. 4

Question Number : 156 Question Id : 48558433221 Question Type : MCQ Option Shuffling : No Is Question Mandatory : No Calculator : None Response Time : N.A Think Time : N.A Minimum Instruction Time : 0

Correct Marks : 5 Wrong Marks : 1

Question Key Details :

Key	Value
Comprehension	MCQ

"This happens when the birth rate is more than the death rate between two points of time" choose the right from the following.

1. Stationary Population
2. Actual Growth of Population
3. Negative Growth of Population
4. Positive Growth of Population

Options :

485584132881. 1
485584132882. 2
485584132883. 3
485584132884. 4

Question Number : 156 Question Id : 48558433221 Question Type : MCQ Option Shuffling : No Is Question Mandatory : No Calculator : None Response Time : N.A Think Time : N.A Minimum Instruction Time : 0

Correct Marks : 5 Wrong Marks : 1

Question Key Details :

Key	Value
Comprehension	MCQ

"यह तब होती है जब दो समय अंतरालों के बीच जन्म दर, मृत्यु दर से अधिक है" निम्न में से सही को चुनिए।

1. स्थिर जनसंख्या
2. जनसंख्या की वास्तविक
3. जनसंख्या की ऋणात्मक वृद्धि
4. जनसंख्या की धनात्मक वृद्धि

Options :

485584132881. 1
485584132882. 2
485584132883. 3
485584132884. 4

Question Number : 157 Question Id : 48558433222 Question Type : MCQ Option Shuffling : No Is Question Mandatory : No Calculator : None Response Time : N.A Think Time : N.A Minimum Instruction Time : 0

Correct Marks : 5 Wrong Marks : 1

Question Key Details :

Key	Value
Comprehension	MCQ

The 'Alaskan Highway' links which of the following?

1. British Colombia to St. John city
2. Edmonton to Anchorage
3. Darwin to Malborne
4. Algiers to Conakry

Options :

485584132885. 1
485584132886. 2
485584132887. 3
485584132888. 4

Question Number : 157 Question Id : 48558433222 Question Type : MCQ Option Shuffling : No Is Question Mandatory : No Calculator : None Response Time : N.A Think Time : N.A Minimum Instruction Time : 0

Correct Marks : 5 Wrong Marks : 1

Question Key Details :

Key	Value
Comprehension	MCQ

"अलास्का महामार्ग" निम्न में से किनको जोड़ता है?

1. ब्रिटिश कोलम्बिया से सेंट जॉन नगर
2. एडमोंटन से एंकोरेज
3. डार्विन से मेलबोर्न
4. अल्जीयर्स से कोनाक्री

Options :

485584132885. 1
485584132886. 2
485584132887. 3
485584132888. 4

Question Number : 158 Question Id : 48558433223 Question Type : MCQ Option Shuffling : No Is Question Mandatory : No Calculator : None Response Time : N.A Think Time : N.A Minimum Instruction Time : 0

Correct Marks : 5 Wrong Marks : 1

Question Key Details :

Key	Value
Comprehension	MCQ

When and by whom Human development index was created?

1. Prof A. Shaws (1991)
2. Prof Amartya Sen, 1990
3. Dr. Mahbub-UI-Haq, 1990
4. Prof Amartya Sen 1991

Options :

485584132889. 1
485584132890. 2
485584132891. 3
485584132892. 4

Question Number : 158 Question Id : 48558433223 Question Type : MCQ Option Shuffling : No Is Question Mandatory : No Calculator : None Response Time : N.A Think Time : N.A Minimum Instruction Time : 0

Correct Marks : 5 Wrong Marks : 1

Question Key Details :

Key	Value
Comprehension	MCQ

मानव विकास सूचकांक कब और किसके द्वारा बनाया गया?

1. प्रो. ए. शॉ. 1991
2. प्रो. अमर्त्य सेन 1990
3. डॉ. महबूब-उल-हक 1990
4. प्रो. अमर्त्य सेन 1991

Options :

485584132889. 1
485584132890. 2
485584132891. 3
485584132892. 4

Question Number : 159 Question Id : 48558433224 Question Type : MCQ Option Shuffling : No Is Question Mandatory : No Calculator : None Response Time : N.A Think Time : N.A Minimum Instruction Time : 0

Correct Marks : 5 Wrong Marks : 1

Question Key Details :

Key	Value
Comprehension	MCQ

Famous pipeline 'Big Inch' is located in _____ .

1. Saudi Arabia
2. Qutar
3. USA
4. Venezuela

Options :

485584132893. 1
485584132894. 2
485584132895. 3
485584132896. 4

Question Number : 159 Question Id : 48558433224 Question Type : MCQ Option Shuffling : No Is Question Mandatory : No Calculator : None Response Time : N.A Think Time : N.A Minimum Instruction Time : 0

Correct Marks : 5 Wrong Marks : 1

Question Key Details :

Key	Value
Comprehension	MCQ

प्रसिद्ध पाइपलाइन "बिग इंच" में स्थित है?

1. सउदी अरब
2. कतर
3. यू.एस.ए.
4. वेनेजुएला

Options :

485584132893. 1
485584132894. 2
485584132895. 3
485584132896. 4

Question Number : 160 Question Id : 48558433225 Question Type : MCQ Option Shuffling : No Is Question Mandatory : No Calculator : None Response Time : N.A Think Time : N.A Minimum Instruction Time : 0

Correct Marks : 5 Wrong Marks : 1

Question Key Details :

Key	Value
Comprehension	MCQ

How many of the following cities in world have attained the million status at the beginning of 2005.

1. 206
2. 437
3. 469
4. 438

Options :

485584132897. 1
485584132898. 2
485584132899. 3
485584132900. 4

Question Number : 160 Question Id : 48558433225 Question Type : MCQ Option Shuffling : No Is Question Mandatory : No Calculator : None Response Time : N.A Think Time : N.A Minimum Instruction Time : 0

Correct Marks : 5 Wrong Marks : 1

Question Key Details :

Key	Value
Comprehension	MCQ

निम्न में से विश्व में कितने शहरों ने 2005 के आरंभ में "मिलियन" स्तर (दर्जा) प्राप्त कर लिया था?

1. 206
2. 437
3. 469
4. 438

Options :

485584132897. 1
485584132898. 2
485584132899. 3
485584132900. 4

Question Number : 161 Question Id : 48558433226 Question Type : MCQ Option Shuffling : No Is Question Mandatory : No Calculator : None Response Time : N.A Think Time : N.A Minimum Instruction Time : 0

Correct Marks : 5 Wrong Marks : 1

Question Key Details :

Key	Value
Comprehension	MCQ

Which among the following is not a factor that discourage women to migrate from rural to urban areas?

1. Shortage of housing
2. Paucity of job opportunities
3. Low cost of living
4. Lack of security in cities

Options :

485584132901. 1
485584132902. 2
485584132903. 3
485584132904. 4

Question Number : 161 Question Id : 48558433226 Question Type : MCQ Option Shuffling : No Is Question Mandatory : No Calculator : None Response Time : N.A Think Time : N.A Minimum Instruction Time : 0

Correct Marks : 5 Wrong Marks : 1

Question Key Details :

Key	Value
Comprehension	MCQ

निम्न में से कौन सा एक कारक, ग्रामीण से नगरीय क्षेत्रों की ओर महिला प्रवास को हतोत्साहित नहीं करता है?

1. आवास (घरों) की कमी
2. रोजगार के अवसरों का अभाव
3. सस्ता रहन सहन
4. शहरों में सुरक्षा की कमी

Options :

485584132901. 1
485584132902. 2
485584132903. 3
485584132904. 4

Question Number : 162 Question Id : 48558433227 Question Type : MCQ Option Shuffling : No Is Question Mandatory : No Calculator : None Response Time : N.A Think Time : N.A Minimum Instruction Time : 0

Correct Marks : 5 Wrong Marks : 1

Question Key Details :

Key	Value
Comprehension	MCQ

In the Age sex pyramid a narrow base and a tapered top represents which of the following?

1. Declining Population Pyramid
2. Constant Population Pyramid
3. Expanding Population Pyramid
4. Triangular Shaped Pyramid

Options :

485584132905. 1
485584132906. 2
485584132907. 3
485584132908. 4

Question Number : 162 Question Id : 48558433227 Question Type : MCQ Option Shuffling : No Is Question Mandatory : No Calculator : None Response Time : N.A Think Time : N.A Minimum Instruction Time : 0

Correct Marks : 5 Wrong Marks : 1

Question Key Details :

Key	Value
Comprehension	MCQ

संकीर्ण आधार और शंडाकार शीर्ष का आयु-लिंग पिरामिड निम्न में से किसका प्रतिनिधित्व करता है?

1. हालमान जनसंख्या पिरामिड
2. स्थिर जनसंख्या पिरामिड
3. विस्तारित होती जनसंख्या पिरामिड
4. त्रिभुजाकार आकृति पिरामिड

Options :

485584132905. 1
485584132906. 2
485584132907. 3
485584132908. 4

Question Number : 163 Question Id : 48558433228 Question Type : MCQ Option Shuffling : No Is Question Mandatory : No Calculator : None Response Time : N.A Think Time : N.A Minimum Instruction Time : 0

Correct Marks : 5 Wrong Marks : 1

Question Key Details :

Key	Value
Comprehension	MCQ

Which one of the following states of India has the highest female literacy?

1. Tamil Nadu
2. Punjab
3. Haryana
4. Kerala

Options :

485584132909. 1
485584132910. 2
485584132911. 3
485584132912. 4

Question Number : 163 Question Id : 48558433228 Question Type : MCQ Option Shuffling : No Is Question Mandatory : No Calculator : None Response Time : N.A Think Time : N.A Minimum Instruction Time : 0

Correct Marks : 5 Wrong Marks : 1

Question Key Details :

Key	Value
Comprehension	MCQ

भारत के निम्न किस राज्य में महिला साक्षरता सर्वाधिक है?

1. तमिलनाडु
2. पंजाब
3. हरियाणा
4. केरल

Options :

485584132909. 1
485584132910. 2
485584132911. 3
485584132912. 4

Question Number : 164 Question Id : 48558433229 Question Type : MCQ Option Shuffling : No Is Question Mandatory : No Calculator : None Response Time : N.A Think Time : N.A Minimum Instruction Time : 0

Correct Marks : 5 Wrong Marks : 1

Question Key Details :

Key	Value
Comprehension	MCQ

The first complete census was conducted in India in which year ?

1. 1861
2. 1871
3. 1881
4. 1891

Options :

485584132913. 1
485584132914. 2
485584132915. 3
485584132916. 4

Question Number : 164 Question Id : 48558433229 Question Type : MCQ Option Shuffling : No Is Question Mandatory : No Calculator : None Response Time : N.A Think Time : N.A Minimum Instruction Time : 0

Correct Marks : 5 Wrong Marks : 1

Question Key Details :

Key	Value
Comprehension	MCQ

प्रथम सम्पूर्ण जनगणना भारत में किस वर्ष में की गई थी?

1. 1861
2. 1871
3. 1881
4. 1891

Options :

485584132913. 1
485584132914. 2
485584132915. 3
485584132916. 4

Question Number : 165 Question Id : 48558433230 Question Type : MCQ Option Shuffling : No Is Question Mandatory : No Calculator : None Response Time : N.A Think Time : N.A Minimum Instruction Time : 0

Correct Marks : 5 Wrong Marks : 1

Question Key Details :

Key	Value
Comprehension	MCQ

How many Railway Zones are there in India?

1. 12
2. 14
3. 15
4. 16

Options :

485584132917. 1
485584132918. 2
485584132919. 3
485584132920. 4

Question Number : 165 Question Id : 48558433230 Question Type : MCQ Option Shuffling : No Is Question Mandatory : No Calculator : None Response Time : N.A Think Time : N.A Minimum Instruction Time : 0

Correct Marks : 5 Wrong Marks : 1

Question Key Details :

Key	Value
Comprehension	MCQ

भारत में कितने रेलवे मंडल हैं?

1. 12
2. 14
3. 15
4. 16

Options :

485584132917. 1
485584132918. 2
485584132919. 3
485584132920. 4

Question Number : 166 Question Id : 48558433231 Question Type : MCQ Option Shuffling : No Is Question Mandatory : No Calculator : None Response Time : N.A Think Time : N.A Minimum Instruction Time : 0

Correct Marks : 5 Wrong Marks : 1

Question Key Details :

Key	Value
Comprehension	MCQ

According to Grierson (Linguistic Survey of India 1903-1928) how many languages were there in India?

1. 544
2. 22
3. 179
4. 267

Options :

485584132921. 1
485584132922. 2
485584132923. 3
485584132924. 4

Question Number : 166 Question Id : 48558433231 Question Type : MCQ Option Shuffling : No Is Question Mandatory : No Calculator : None Response Time : N.A Think Time : N.A Minimum Instruction Time : 0

Correct Marks : 5 Wrong Marks : 1

Question Key Details :

Key	Value
Comprehension	MCQ

ग्रियर्सन के अनुसार (भारत का भाषाई सर्वेक्षण 1903-1928) भारत में कितनी भाषाएं थीं?

1. 544
2. 22
3. 179
4. 267

Options :

485584132921. 1
485584132922. 2
485584132923. 3
485584132924. 4

Question Number : 167 Question Id : 48558433232 Question Type : MCQ Option Shuffling : No Is Question Mandatory : No Calculator : None Response Time : N.A Think Time : N.A Minimum Instruction Time : 0

Correct Marks : 5 Wrong Marks : 1

Question Key Details :

Key	Value
Comprehension	MCQ

Which phase is referred to as the period of population explosion in India?

1. Phase I (1901-1921)
2. Phase II (1921-1951)
3. Phase III (1951-1981)
4. Phase IV (Post 1981 till present)

Options :

485584132925. 1
485584132926. 2
485584132927. 3
485584132928. 4

Question Number : 167 Question Id : 48558433232 Question Type : MCQ Option Shuffling : No Is Question Mandatory : No Calculator : None Response Time : N.A Think Time : N.A Minimum Instruction Time : 0

Correct Marks : 5 Wrong Marks : 1

Question Key Details :

Key	Value
Comprehension	MCQ

कौन सी प्रावस्था को भारत में जनसंख्या विस्फोट का काल माना जाता है?

1. प्रावस्था I (1901-1921)
2. प्रावस्था II (1921-1951)
3. प्रावस्था III (1951-1981)
4. प्रावस्था IV (1981 के बाद से वर्तमान तक)

Options :

485584132925. 1
485584132926. 2
485584132927. 3
485584132928. 4

Question Number : 168 Question Id : 48558433233 Question Type : MCQ Option Shuffling : No Is Question Mandatory : No Calculator : None Response Time : N.A Think Time : N.A Minimum Instruction Time : 0

Correct Marks : 5 Wrong Marks : 1

Question Key Details :

Key	Value
Comprehension	MCQ

Which one of the following town / cities has not been developed as an administrative headquarters after Independence?

1. Jamshedpur
2. Chandigarh
3. Gandhinagar
4. Dispur

Options :

485584132929. 1
485584132930. 2
485584132931. 3
485584132932. 4

Question Number : 168 Question Id : 48558433233 Question Type : MCQ Option Shuffling : No Is Question Mandatory : No Calculator : None Response Time : N.A Think Time : N.A Minimum Instruction Time : 0

Correct Marks : 5 Wrong Marks : 1

Question Key Details :

Key	Value
Comprehension	MCQ

निम्न में से कौन सा एक नगर/शहर स्वतन्त्रता के बाद प्रशासनिक मुख्यालय के रूप में विकसित नहीं हुआ?

1. जमशेदपुर
2. चंडीगढ़
3. गांधीनगर
4. दिसपुर

Options :

485584132929. 1
485584132930. 2
485584132931. 3
485584132932. 4

Question Number : 169 Question Id : 48558433234 Question Type : MCQ Option Shuffling : No Is Question Mandatory : No Calculator : None Response Time : N.A Think Time : N.A Minimum Instruction Time : 0

Correct Marks : 5 Wrong Marks : 1

Question Key Details :

Key	Value
Comprehension	MCQ

The famous Nehru Trophy Boat Race (Vallamkali) is held in the backwater of which of the following?

1. Andhra Pradesh
2. Goa
3. Karnataka
4. Kerala

Options :

485584132933. 1
485584132934. 2
485584132935. 3
485584132936. 4

Question Number : 169 Question Id : 48558433234 Question Type : MCQ Option Shuffling : No Is Question Mandatory : No Calculator : None Response Time : N.A Think Time : N.A Minimum Instruction Time : 0

Correct Marks : 5 Wrong Marks : 1

Question Key Details :

Key	Value
Comprehension	MCQ

प्रसिद्ध नेहरू ट्रॉफी नौकादौड़ (वल्लामकाली) निम्न में से किस के पाश्च जल में आयोजित की जाती है?

1. आंध्र प्रदेश
2. गोवा
3. कर्नाटक
4. केरल

Options :

485584132933. 1
485584132934. 2
485584132935. 3
485584132936. 4

Question Number : 170 Question Id : 48558433235 Question Type : MCQ Option Shuffling : No Is Question Mandatory : No Calculator : None Response Time : N.A Think Time : N.A Minimum Instruction Time : 0

Correct Marks : 5 Wrong Marks : 1

Question Key Details :

Key	Value
Comprehension	MCQ

Which one among the following classes comprises the maximum number of town / cities in India as per Census of India 2011?

1. Class II
2. Class III
3. Class IV
4. Class V

Options :

485584132937. 1
485584132938. 2
485584132939. 3
485584132940. 4

Question Number : 170 Question Id : 48558433235 Question Type : MCQ Option Shuffling : No Is Question Mandatory : No Calculator : None Response Time : N.A Think Time : N.A Minimum Instruction Time : 0

Correct Marks : 5 Wrong Marks : 1

Question Key Details :

Key	Value
Comprehension	MCQ

भारत की 2011 की जनगणना के अनुसार भारत में निम्न में से किस वर्ग (श्रेणी) में नगरों/शहरों की सर्वाधिक संख्या है?

1. वर्ग I
2. वर्ग III
3. वर्ग IV
4. वर्ग V

Options :

485584132937. 1
485584132938. 2
485584132939. 3
485584132940. 4

Question Number : 171 Question Id : 48558433236 Question Type : MCQ Option Shuffling : No Is Question Mandatory : No Calculator : None Response Time : N.A Think Time : N.A Minimum Instruction Time : 0

Correct Marks : 5 Wrong Marks : 1

Question Key Details :

Key	Value
Comprehension	MCQ

Which one of the following is an example of Ancient Town in India?

1. Prayag
2. Hyderabad
3. Delhi
4. Mumbai

Options :

485584132941. 1
485584132942. 2
485584132943. 3
485584132944. 4

Question Number : 171 Question Id : 48558433236 Question Type : MCQ Option Shuffling : No Is Question Mandatory : No Calculator : None Response Time : N.A Think Time : N.A Minimum Instruction Time : 0

Correct Marks : 5 Wrong Marks : 1

Question Key Details :

Key	Value
Comprehension	MCQ

निम्न में से कौन सा एक भारत में प्राचीन नगर का उदाहरण है?

1. प्रयाग
2. हैदराबाद
3. दिल्ली
4. मुम्बई

Options :

485584132941. 1
485584132942. 2
485584132943. 3
485584132944. 4

Question Number : 172 Question Id : 48558433237 Question Type : MCQ Option Shuffling : No Is Question Mandatory : No Calculator : None Response Time : N.A Think Time : N.A Minimum Instruction Time : 0

Correct Marks : 5 Wrong Marks : 1

Question Key Details :

Key	Value
Comprehension	MCQ

Which of the following Indian state has the highest density of population?

1. Bihar
2. Kerala
3. Uttar Pradesh
4. West Bengal

Options :

485584132945. 1
485584132946. 2
485584132947. 3
485584132948. 4

Question Number : 172 Question Id : 48558433237 Question Type : MCQ Option Shuffling : No Is Question Mandatory : No Calculator : None Response Time : N.A Think Time : N.A Minimum Instruction Time : 0

Correct Marks : 5 Wrong Marks : 1

Question Key Details :

Key	Value
Comprehension	MCQ

निम्न में से भारत के किस राज्य में जनसंख्या घनत्व सर्वोच्च है?

1. बिहार
2. केरल
3. उत्तर प्रदेश
4. पश्चिम बंगाल

Options :

485584132945. 1
485584132946. 2
485584132947. 3
485584132948. 4

Question Number : 173 Question Id : 48558433238 Question Type : MCQ Option Shuffling : No Is Question Mandatory : No Calculator : None Response Time : N.A Think Time : N.A Minimum Instruction Time : 0

Correct Marks : 5 Wrong Marks : 1

Question Key Details :

Key	Value
Comprehension	MCQ

The Ocean noise levels in 2003-04 were about _____ higher than in 1964-1966.

1. 20 decibels
2. 10-12 decibels
3. 5 decibels
4. 15-18 decibels

Options :

485584132949. 1
485584132950. 2
485584132951. 3
485584132952. 4

Question Number : 173 Question Id : 48558433238 Question Type : MCQ Option Shuffling : No Is Question Mandatory : No Calculator : None Response Time : N.A Think Time : N.A Minimum Instruction Time : 0

Correct Marks : 5 Wrong Marks : 1

Question Key Details :

Key	Value
Comprehension	MCQ

महासागरीय शोर स्तर 2003-04 में 1964-1966 की तुलना में लगभग _____ अधिक था।

1. 20 डेसीबल
2. 10-12 डेसीबल
3. 5 डेसीबल
4. 15-18 डेसीबल

Options :

485584132949. 1
485584132950. 2
485584132951. 3
485584132952. 4

Question Number : 174 Question Id : 48558433239 Question Type : MCQ Option Shuffling : No Is Question Mandatory : No Calculator : None Response Time : N.A Think Time : N.A Minimum Instruction Time : 0

Correct Marks : 5 Wrong Marks : 1

Question Key Details :

Key	Value
Comprehension	MCQ

Which one of the following contributes to the maximum length of the roads in India?

1. National Highway
2. State Highway
3. Districts Roads
4. Rural Roads

Options :

485584132953. 1
485584132954. 2
485584132955. 3
485584132956. 4

Question Number : 174 Question Id : 48558433239 Question Type : MCQ Option Shuffling : No Is Question Mandatory : No Calculator : None Response Time : N.A Think Time : N.A Minimum Instruction Time : 0

Correct Marks : 5 Wrong Marks : 1

Question Key Details :

Key	Value
Comprehension	MCQ

निम्न में से किस एक की भारत में सड़कों की लम्बाई में सर्वाधिक भागीदारी है?

1. राष्ट्रीय महामार्ग
2. राज्य महामार्ग
3. जिला सड़कें
4. ग्रामीण सड़कें

Options :

485584132953. 1
485584132954. 2
485584132955. 3
485584132956. 4

Question Number : 175 Question Id : 48558433240 Question Type : MCQ Option Shuffling : No Is Question Mandatory : No Calculator : None Response Time : N.A Think Time : N.A Minimum Instruction Time : 0

Correct Marks : 5 Wrong Marks : 1

Question Key Details :

Key	Value
Comprehension	MCQ

Which one of the following is an Inland Port?

1. Kochhi Port
2. Ennore Port
3. Kolkata Port
4. Haldia Port

Options :

485584132957. 1
485584132958. 2
485584132959. 3
485584132960. 4

Question Number : 175 Question Id : 48558433240 Question Type : MCQ Option Shuffling : No Is Question Mandatory : No Calculator : None Response Time : N.A Think Time : N.A Minimum Instruction Time : 0

Correct Marks : 5 Wrong Marks : 1

Question Key Details :

Key	Value
Comprehension	MCQ

निम्न में से कौन सा एक अंतर्देशीय पत्तन है?

1. कोच्चि पत्तन
2. एन्नोर पत्तन
3. कोलकाता पत्तन
4. हल्दिया पत्तन

Options :

485584132957. 1
485584132958. 2
485584132959. 3
485584132960. 4

Question Number : 176 Question Id : 48558433241 Question Type : MCQ Option Shuffling : No Is Question Mandatory : No Calculator : None Response Time : N.A Think Time : N.A Minimum Instruction Time : 0

Correct Marks : 5 Wrong Marks : 1

Question Key Details :

Key	Value
Comprehension	MCQ

Arrange the following approaches in the order?

- A. Spatial organization
- B. Exploration and description
- C. Post modernism in geography
- D. Regional Analysis

Choose the correct answer from the options given below:

1. A, C, B, D
2. B, D, A, C
3. C, D, B, A
4. D, A, C, B

Options :

485584132961. 1
485584132962. 2
485584132963. 3
485584132964. 4

Question Number : 176 Question Id : 48558433241 Question Type : MCQ Option Shuffling : No Is Question Mandatory : No Calculator : None Response Time : N.A Think Time : N.A Minimum Instruction Time : 0

Correct Marks : 5 Wrong Marks : 1

Question Key Details :

Key	Value
Comprehension	MCQ

निम्न उपागमों को क्रम में व्यवस्थित कीजिए।

- A. स्थानिक संगठन
- B. अन्वेषण और विवरण
- C. भूगोल में उत्तर-आधुनिकवाद
- D. प्रादेशिक विश्लेषण

नीचे दिए गए विकल्पों में से सही उत्तर चुनिए:

- 1. A, C, B, D
- 2. B, D, A, C
- 3. C, D, B, A
- 4. D, A, C, B

Options :

- 485584132961. 1
- 485584132962. 2
- 485584132963. 3
- 485584132964. 4

Question Number : 177 Question Id : 48558433242 Question Type : MCQ Option Shuffling : No Is Question Mandatory : No Calculator : None Response Time : N.A Think Time : N.A Minimum Instruction Time : 0

Correct Marks : 5 Wrong Marks : 1

Question Key Details :

Key	Value
Comprehension	MCQ

Arrange the following continents in descending order of population density

- A. North America
- B. Africa
- C. Oceania
- D. Asia

Choose the correct answer from the options given below:

- 1. D, B, A, C
- 2. D, C, B, A
- 3. D, A, B, C
- 4. D, A, C, B

Options :

- 485584132965. 1
- 485584132966. 2
- 485584132967. 3
- 485584132968. 4

Question Number : 177 Question Id : 48558433242 Question Type : MCQ Option Shuffling : No Is Question Mandatory : No Calculator : None Response Time : N.A Think Time : N.A Minimum Instruction Time : 0

Correct Marks : 5 Wrong Marks : 1

Question Key Details :

Key	Value
Comprehension	MCQ

निम्नलिखित महाद्वीपों को जनसंख्या घनत्व के अवरोही क्रम में व्यवस्थित करें।

- A. उत्तरी अमेरिका
- B. अफ्रीका
- C. ओशनिया
- D. एशिया

नीचे दिए गए विकल्पों में से सही उत्तर चुनिए:

- 1. D, B, A, C
- 2. D, C, B, A
- 3. D, A, B, C
- 4. D, A, C, B

Options :

- 485584132965. 1
- 485584132966. 2
- 485584132967. 3
- 485584132968. 4

Question Number : 178 Question Id : 48558433243 Question Type : MCQ Option Shuffling : No Is Question Mandatory : No Calculator : None Response Time : N.A Think Time : N.A Minimum Instruction Time : 0

Correct Marks : 5 Wrong Marks : 1

Question Key Details :

Key	Value
Comprehension	MCQ

Arrange the below mentioned Urban classification in correct sequence (small to large).

- A. City
- B. Conurbation
- C. Megalopolis
- D. Million City

Choose the correct answer from the options given below:

1. A, B, C, D
2. A, D, B, C
3. A, C, B, D
4. C, B, D, A

Options :

- 485584132969. 1
- 485584132970. 2
- 485584132971. 3
- 485584132972. 4

Question Number : 178 Question Id : 48558433243 Question Type : MCQ Option Shuffling : No Is Question Mandatory : No Calculator : None Response Time : N.A Think Time : N.A Minimum Instruction Time : 0

Correct Marks : 5 Wrong Marks : 1

Question Key Details :

Key	Value
Comprehension	MCQ

नीचे दिए गए नगरीय वर्गीकरण को सही क्रम (छोटे से बड़े) में व्यवस्थित कीजिए।

- A. शहर
- B. सन्नगर
- C. विश्वनगरी
- D. मिलियन सिटी

नीचे दिए गए विकल्पों में से सही उत्तर चुनिए:

1. A, B, C, D
2. A, D, B, C
3. A, C, B, D
4. C, B, D, A

Options :

- 485584132969. 1
- 485584132970. 2
- 485584132971. 3
- 485584132972. 4

Question Number : 179 Question Id : 48558433244 Question Type : MCQ Option Shuffling : No Is Question Mandatory : No Calculator : None Response Time : N.A Think Time : N.A Minimum Instruction Time : 0

Correct Marks : 5 Wrong Marks : 1

Question Key Details :

Key	Value
Comprehension	MCQ

Arrange the below mentioned technology phases with population growth periods in correct order from birth of Christ to Present.

- A. Biotechnology
- B. Age of European exploration and colonization
- C. Information and computers
- D. Transportation development

Choose the correct answer from the options given below:

- 1. B, D, A, C
- 2. B, D, C, A
- 3. B, C, D, A
- 4. B, A, D, C

Options :

- 485584132973. 1
- 485584132974. 2
- 485584132975. 3
- 485584132976. 4

Question Number : 179 Question Id : 48558433244 Question Type : MCQ Option Shuffling : No Is Question Mandatory : No Calculator : None Response Time : N.A Think Time : N.A Minimum Instruction Time : 0

Correct Marks : 5 Wrong Marks : 1

Question Key Details :

Key	Value
Comprehension	MCQ

नीचे दिए गए जनसंख्या वृद्धि कालों (अवधि) को तकनीकी चरणों से जोड़ते हुए ईसा के जन्म से अब (वर्तमान) तक, सही क्रम में व्यवस्थित कीजिए।

- A. जैव प्रौद्योगिकी
- B. यूरोपीय खोज और औपनिवेशीकरण का युग (काल)
- C. सूचना और कम्प्यूटर्स
- D. परिवहन (यातायात) विकास

नीचे दिए गए विकल्पों में से सही उत्तर चुनिए:

- 1. B, D, A, C
- 2. B, D, C, A
- 3. B, C, D, A
- 4. B, A, D, C

Options :

- 485584132973. 1
- 485584132974. 2
- 485584132975. 3
- 485584132976. 4

Question Number : 180 Question Id : 48558433245 Question Type : MCQ Option Shuffling : No Is Question Mandatory : No Calculator : None Response Time : N.A Think Time : N.A Minimum Instruction Time : 0

Correct Marks : 5 Wrong Marks : 1

Question Key Details :

Key	Value
Comprehension	MCQ

Arrange the following airports of India from east to west.

- A. Shillong
- B. Allahabad
- C. Udaipur
- D. Patna

Choose the correct answer from the options given below:

- 1. A, D, B, C
- 2. A, D, C, B
- 3. D, A, C, B
- 4. D, A, B, C

Options :

- 485584132977. 1
- 485584132978. 2
- 485584132979. 3
- 485584132980. 4

Question Number : 180 Question Id : 48558433245 Question Type : MCQ Option Shuffling : No Is Question Mandatory : No Calculator : None Response Time : N.A Think Time : N.A Minimum Instruction Time : 0
Correct Marks : 5 Wrong Marks : 1
Question Key Details :

Key	Value
Comprehension	MCQ

भारत के निम्न वायुपत्तनों को पूर्व से पश्चिम के क्रम में व्यवस्थित कीजिए।

- A. शिलाँग
- B. इलाहाबाद
- C. उदयपुर
- D. पटना

नीचे दिए गए विकल्पों में से सही उत्तर चुनिए:

- 1. A, D, B, C
- 2. A, D, C, B
- 3. D, A, C, B
- 4. D, A, B, C

Options :

- 485584132977. 1
- 485584132978. 2
- 485584132979. 3
- 485584132980. 4

Question Number : 181 Question Id : 48558433246 Question Type : MCQ Option Shuffling : No Is Question Mandatory : No Calculator : None Response Time : N.A Think Time : N.A Minimum Instruction Time : 0
Correct Marks : 5 Wrong Marks : 1
Question Key Details :

Key	Value
Comprehension	MCQ

Choose indicators used to assess Human Development Index from below.

- A. Purchasing Power
- B. Happiness
- C. Life expectancy at Birth
- D. Gross Enrollment Ratio

Choose the correct answer from the options given below:

1. A, B, D only
2. A, C, D only
3. B, C, D only
4. B, A, C only

Options :

- 485584132981. 1
- 485584132982. 2
- 485584132983. 3
- 485584132984. 4

Question Number : 181 Question Id : 48558433246 Question Type : MCQ Option Shuffling : No Is Question Mandatory : No Calculator : None Response Time : N.A Think Time : N.A Minimum Instruction Time : 0

Correct Marks : 5 Wrong Marks : 1

Question Key Details :

Key	Value
Comprehension	MCQ

निम्न में से विकास सूचकांक के मापन के प्रमुख तत्वों (सूचकों) को चुनिए।

- A. क्रय शक्ति
- B. प्रसन्नता
- C. जन्म पर जीवन प्रत्याशा
- D. सकल अनुपात पंजीकरण

नीचे दिए गए विकल्पों में से सही उत्तर चुनिए:

1. केवल A, B और D
2. केवल A, C और D
3. केवल B, C और D
4. केवल B, A और C

Options :

- 485584132981. 1
- 485584132982. 2
- 485584132983. 3
- 485584132984. 4

Question Number : 182 Question Id : 48558433247 Question Type : MCQ Option Shuffling : No Is Question Mandatory : No Calculator : None Response Time : N.A Think Time : N.A Minimum Instruction Time : 0

Correct Marks : 5 Wrong Marks : 1

Question Key Details :

Key	Value
Comprehension	MCQ

Major areas of rice production are:

- A. Bihar
- B. Karnataka
- C. West Bengal
- D. Chhattisgarh

Choose the correct answer from the options given below:

1. A, B and D only
2. B, C and D only
3. A, C and D only
4. A, B and C only

Options :

- 485584132985. 1
- 485584132986. 2
- 485584132987. 3
- 485584132988. 4

Question Number : 182 Question Id : 48558433247 Question Type : MCQ Option Shuffling : No Is Question Mandatory : No Calculator : None Response Time : N.A Think Time : N.A Minimum Instruction Time : 0

Correct Marks : 5 Wrong Marks : 1

Question Key Details :

Key	Value
Comprehension	MCQ

चावल उत्पादन के प्रमुख क्षेत्र हैं:

- A. बिहार
- B. कर्नाटक
- C. पश्चिम बंगाल
- D. छत्तीसगढ़

नीचे दिए गए विकल्पों में से सही उत्तर चुनिए:

1. केवल A, B और D
2. केवल B, C और D
3. केवल A, C और D
4. केवल A, B और C

Options :

- 485584132985. 1
- 485584132986. 2
- 485584132987. 3
- 485584132988. 4

Question Number : 183 Question Id : 48558433248 Question Type : MCQ Option Shuffling : No Is Question Mandatory : No Calculator : None Response Time : N.A Think Time : N.A Minimum Instruction Time : 0

Correct Marks : 5 Wrong Marks : 1

Question Key Details :

Key	Value
Comprehension	MCQ

Read the following about Indira Gandhi Canal Command Area carefully.

- A. Indira Gandhi Canal was previously known as the Rajasthan Canal.
- B. The Canal Project was launched on 31 March ,1948.
- C. The Canal originates at Herike barrage in Punjab.
- D. They command area of stage-I lies in Ganganagar, Hanumangarh and northern part of Bikaner districts.

Choose the correct answer from the options given below:

- 1. A, B and C only
- 2. A, B and D only
- 3. A, C and D only
- 4. B, C and D only

Options :

- 485584132989. 1
- 485584132990. 2
- 485584132991. 3
- 485584132992. 4

Question Number : 183 Question Id : 48558433248 Question Type : MCQ Option Shuffling : No Is Question Mandatory : No Calculator : None Response Time : N.A Think Time : N.A Minimum Instruction Time : 0

Correct Marks : 5 Wrong Marks : 1

Question Key Details :

Key	Value
Comprehension	MCQ

"इंदिरा गांधी नहर कमान क्षेत्र" के बारे में निम्न को ध्यानपूर्वक पढ़िए।

- A. इंदिरा गांधी नहर को पहले राजस्थान नहर के रूप में जाना जाता था।
- B. नहर परियोजना 31 मार्च 1948 को आरंभ की गई थी।
- C. नहर पंजाब के हरिके बाँध से निकलती है।
- D. चरण - I का कमान क्षेत्र गंगानगर, हनुमानगढ़ और बीकानेर जिले के उत्तरी भाग में पड़ता है।

नीचे दिए गए विकल्पों में से सही उत्तर चुनिए:

- 1. केवल A, B और D
- 2. केवल B, C और D
- 3. केवल A, C और D
- 4. केवल A, B और C

Options :

- 485584132989. 1
- 485584132990. 2
- 485584132991. 3
- 485584132992. 4

Question Number : 184 Question Id : 48558433249 Question Type : MCQ Option Shuffling : No Is Question Mandatory : No Calculator : None Response Time : N.A Think Time : N.A Minimum Instruction Time : 0

Correct Marks : 5 Wrong Marks : 1

Question Key Details :

Key	Value
Comprehension	MCQ

Read the following statements about the North Western region of India carefully.

- A. Rajasthan is rich in building stones i.e. sandstone, granite, marble.
- B. Gujarat does not have petroleum deposits.
- C. Gujarat and Rajasthan both have rich source of salt
- D. This region provide raw material for Cement Industry

Choose the correct answer from the options given below:

- 1. A, B and C only
- 2. A, B and D only
- 3. A, C and D only
- 4. B, C and D only

Options :

- 485584132993. 1
- 485584132994. 2
- 485584132995. 3
- 485584132996. 4

Question Number : 184 Question Id : 48558433249 Question Type : MCQ Option Shuffling : No Is Question Mandatory : No Calculator : None Response Time : N.A Think Time : N.A Minimum Instruction Time : 0

Correct Marks : 5 Wrong Marks : 1

Question Key Details :

Key	Value
Comprehension	MCQ

भारत के उत्तर पश्चिमी प्रदेश के संदर्भ में, निम्न कथनों को ध्यानपूर्वक पढ़िए।

- A. राजस्थान भवन निर्माण (इमारती) पत्थरों जैसे बलुआ पत्थर, ग्रेनाइट, संगरमरमर आदि में समृद्ध है।
- B. गुजरात में पेट्रोलियम निक्षेप नहीं हैं।
- C. गुजरात व राजस्थान दोनों में नमक के समृद्ध स्रोत हैं।
- D. यह प्रदेश सीमेण्ट उद्योग को कच्चा माल प्रदान करता है।

नीचे दिए गए विकल्पों में से सही उत्तर चुनिए:

- 1. केवल A, B और C
- 2. केवल A, B और D
- 3. केवल A, C और D
- 4. केवल B, C और D

Options :

- 485584132993. 1
- 485584132994. 2
- 485584132995. 3
- 485584132996. 4

Question Number : 185 Question Id : 48558433250 Question Type : MCQ Option Shuffling : No Is Question Mandatory : No Calculator : None Response Time : N.A Think Time : N.A Minimum Instruction Time : 0

Correct Marks : 5 Wrong Marks : 1

Question Key Details :

Key	Value
Comprehension	MCQ

Which are the characteristics of Mechanised grain farming?

- A. It is practised in the semi-arid land of mid-latitudes.
- B. The size of the farm is too large.
- C. Variety of crops are grown with livestock.
- D. Entire operations of cultivation are mechanised.

Choose the correct answer from the options given below:

- 1. B, C and D only
- 2. A, B and D only
- 3. A, C and D only
- 4. A, B and C only

Options :

485584132997. 1
485584132998. 2
485584132999. 3
485584133000. 4

Question Number : 185 Question Id : 48558433250 Question Type : MCQ Option Shuffling : No Is Question Mandatory : No Calculator : None Response Time : N.A Think Time : N.A Minimum Instruction Time : 0

Correct Marks : 5 Wrong Marks : 1

Question Key Details :

Key	Value
Comprehension	MCQ

मशीनीकृत अनाज कृषि की विशेषताएं कौन सी हैं?

- A. यह मध्य अक्षांशों के अर्द्ध-शुष्क क्षेत्रों में की जाती है।
B. खेत का आकार बहुत अधिक बड़ा होता है।
C. फसलों की विविध किस्में पशुओं के साथ उगाई जाती हैं।
D. कृषि की समस्त गतिविधियाँ मशीनीकृत हैं।

नीचे दिए गए विकल्पों में से सही उत्तर चुनिए:

- केवल B, C और D
- केवल A, B और D
- केवल A, C और D
- केवल A, B और C

Options :

485584132997. 1
485584132998. 2
485584132999. 3
485584133000. 4

Question Number : 186 Question Id : 48558433251 Question Type : MCQ Option Shuffling : No Is Question Mandatory : No Calculator : None Response Time : N.A Think Time : N.A Minimum Instruction Time : 0

Correct Marks : 5 Wrong Marks : 1

Question Key Details :

Key	Value
Comprehension	MCQ

Match List I with List II

LIST I (Country)		LIST II (Mega city)	
A.	Peru	I.	Jakarta
B.	Indonesia	II.	Manila
C.	Brazil	III.	Lima
D.	Philippines	IV.	Sao Paulo

Choose the correct answer from the options given below:

1. A-III, B-II, C-II, D-IV
2. A-III, B-I, C-IV, D-II
3. A-IV, B-II, C-I, D-III
4. A-IV, B-III, C-II, D-I

Options :

485584133001. 1
485584133002. 2
485584133003. 3
485584133004. 4

Question Number : 186 Question Id : 48558433251 Question Type : MCQ Option Shuffling : No Is Question Mandatory : No Calculator : None Response Time : N.A Think Time : N.A Minimum Instruction Time : 0

Correct Marks : 5 Wrong Marks : 1

Question Key Details :

Key	Value
Comprehension	MCQ

सूची I का सूची II से मिलान कीजिए

सूची I		सूची II	
देश		मेगा सिटी	
A.	पेरू	I.	जकार्ता
B.	इंडोनेशिया	II.	मनीला
C.	ब्राजील	III.	लीमा
D.	फिलीपींस	IV.	साओ पाओलो

निम्नलिखित विकल्पों में से सही उत्तर का चयन कीजिए :

1. A-III, B-II, C-II, D-IV
2. A-III, B-I, C-IV, D-II
3. A-IV, B-II, C-I, D-III
4. A-IV, B-III, C-II, D-I

Options :

- 485584133001. 1
- 485584133002. 2
- 485584133003. 3
- 485584133004. 4

Question Number : 187 Question Id : 48558433252 Question Type : MCQ Option Shuffling : No Is Question Mandatory : No Calculator : None Response Time : N.A Think Time : N.A Minimum Instruction Time : 0

Correct Marks : 5 Wrong Marks : 1

Question Key Details :

Key	Value
Comprehension	MCQ

Match List I with List II

LIST I Pollution		LIST II Sources of pollution	
A.	Air pollution	I.	Urban run-off
B.	Water pollution	II.	Advertising media
C.	Land pollution	III.	Combustion of biofuels
D.	Noise pollution	IV.	Improper human activities

Choose the correct answer from the options given below:

1. A-IV, B-I, C-II, D-III
2. A-IV, B-II, C-III, D-I
3. A-III, B-I, C-IV, D-II
4. A-III, B-II, C-I, D-IV

Options :

- 485584133005. 1
- 485584133006. 2
- 485584133007. 3
- 485584133008. 4

Question Number : 187 Question Id : 48558433252 Question Type : MCQ Option Shuffling : No Is Question Mandatory : No Calculator : None Response Time : N.A Think Time : N.A Minimum Instruction Time : 0

Correct Marks : 5 Wrong Marks : 1

Question Key Details :

Key	Value
Comprehension	MCQ

सूची I का सूची II से मिलान कीजिए

सूची I		सूची II	
प्रदूषण		प्रदूषण के स्रोत	
A.	वायु प्रदूषण	I.	नगरीय वाही जल
B.	जल प्रदूषण	II.	विज्ञापन मीडिया
C.	भूमि प्रदूषण	III.	जैव ईंधनों का दहन
D.	ध्वनि प्रदूषण	IV.	अनुचित मानव क्रिया-कलाप

निम्नलिखित विकल्पों में से सही उत्तर का चयन कीजिए :

1. A-IV, B-I, C-II, D-III
2. A-IV, B-II, C-III, D-I
3. A-III, B-I, C-IV, D-II
4. A-III, B-II, C-I, D-IV

Options :

485584133005. 1
485584133006. 2
485584133007. 3
485584133008. 4

Question Number : 188 Question Id : 48558433253 Question Type : MCQ Option Shuffling : No Is Question Mandatory : No Calculator : None Response Time : N.A Think Time : N.A Minimum Instruction Time : 0

Correct Marks : 5 Wrong Marks : 1

Question Key Details :

Key	Value
Comprehension	MCQ

Match List I with List II

LIST I States		LIST II Ports	
A.	Gujarat	I.	Mangaluru
B.	Maharashtra	II.	Kandla
C.	Karnataka	III.	Kochchi
D.	Kerala	IV.	Jawaharlal Nehru Port

Choose the correct answer from the options given below:

1. A-II, B-I, C-III, D-IV
2. A-II, B-IV, C-I, D-III
3. A-II, B-IV, C-III, D-I
4. A-IV, B-II, C-I, D-III

Options :

485584133009. 1
485584133010. 2
485584133011. 3
485584133012. 4

Question Number : 188 Question Id : 48558433253 Question Type : MCQ Option Shuffling : No Is Question Mandatory : No Calculator : None Response Time : N.A Think Time : N.A Minimum Instruction Time : 0

Correct Marks : 5 Wrong Marks : 1

Question Key Details :

Key	Value
Comprehension	MCQ

सूची I का सूची II से मिलान कीजिए

सूची I		सूची II	
राज्य		पत्तन	
A.	गुजरात	I.	मंगलूरु
B.	महाराष्ट्र	II.	कांडला
C.	कर्नाटक	III.	कोच्चि
D.	केरल	IV.	जवाहरलाल नेहरू पत्तन

निम्नलिखित विकल्पों में से सही उत्तर का चयन कीजिए :

1. A-II, B-I, C-III, D-IV
2. A-II, B-IV, C-I, D-III
3. A-II, B-IV, C-III, D-I
4. A-IV, B-II, C-I, D-III

Options :

485584133009. 1
485584133010. 2
485584133011. 3
485584133012. 4

Question Number : 189 Question Id : 48558433254 Question Type : MCQ Option Shuffling : No Is Question Mandatory : No Calculator : None Response Time : N.A Think Time : N.A Minimum Instruction Time : 0

Correct Marks : 5 Wrong Marks : 1

Question Key Details :

Key	Value
Comprehension	MCQ

Match List I with List II

LIST I (Mining area)		LIST II (State)	
A.	kendujhar	I.	Maharashtra
B.	Ratnagiri	II.	Madhya Pradesh
C.	katni	III.	Rajasthan
D.	khetri	IV.	Odisha

Choose the correct answer from the options given below:

1. A-II, B-I, C-IV, D-III
2. A-IV, B-I, C-II, D-III
3. A-IV, B-II, C-III, D-I
4. A-II, B-III, C-IV, D-I

Options :

485584133013. 1
485584133014. 2
485584133015. 3
485584133016. 4

Question Number : 189 Question Id : 48558433254 Question Type : MCQ Option Shuffling : No Is Question Mandatory : No Calculator : None Response Time : N.A Think Time : N.A Minimum Instruction Time : 0

Correct Marks : 5 Wrong Marks : 1

Question Key Details :

Key	Value
Comprehension	MCQ

सूची I का सूची II से मिलान कीजिए

सूची I		सूची II	
खनन क्षेत्र		राज्य	
A.	केंदूझार	I.	महाराष्ट्र
B.	रत्नागिरि	II.	मध्य प्रदेश
C.	कटनी	III.	राजस्थान
D.	खेतड़ी	IV.	ओड़िसा

निम्नलिखित विकल्पों में से सही उत्तर का चयन कीजिए :

1. A-II, B-I, C-IV, D-III
2. A-IV, B-I, C-II, D-III
3. A-IV, B-II, C-III, D-I
4. A-II, B-III, C-IV, D-I

Options :

- 485584133013. 1
- 485584133014. 2
- 485584133015. 3
- 485584133016. 4

Question Number : 190 Question Id : 48558433255 Question Type : MCQ Option Shuffling : No Is Question Mandatory : No Calculator : None Response Time : N.A Think Time : N.A Minimum Instruction Time : 0

Correct Marks : 5 Wrong Marks : 1

Question Key Details :

Key	Value
Comprehension	MCQ

Match List I with List II

LIST I Specialised functions		LIST II Port	
A.	Ports of Call	I.	Copenhagen
B.	Packet Station	II.	Kochi
C.	Entrepot Ports	III.	Aden
D.	Navel Ports	IV.	Dover

Choose the correct answer from the options given below:

- 1. A-III, B-IV, C-I, D-II
- 2. A-II, B-III, C-IV, D-I
- 3. A-I, B-II, C-III, D-IV
- 4. A-IV, B-I, C-II, D-III

Options :

- 485584133017. 1
- 485584133018. 2
- 485584133019. 3
- 485584133020. 4

Question Number : 190 Question Id : 48558433255 Question Type : MCQ Option Shuffling : No Is Question Mandatory : No Calculator : None Response Time : N.A Think Time : N.A Minimum Instruction Time : 0

Correct Marks : 5 Wrong Marks : 1

Question Key Details :

Key	Value
Comprehension	MCQ

सूची I का सूची II से मिलान कीजिए

सूची I विशिष्टीकृत कार्यकलाप		सूची II पत्तन	
A.	मार्ग पत्तन (विश्रम पत्तन)	I.	कोपेनहेगेन
B.	पैकेट स्टेशन (फेरी पत्तन)	II.	कोच्चि
C.	आंत्रपो पत्तन	III.	अदन
D.	नौसेना पत्तन	IV.	डोवर

निम्नलिखित विकल्पों में से सही उत्तर का चयन कीजिए :

1. A-III, B-IV, C-I, D-II
2. A-II, B-III, C-IV, D-I
3. A-I, B-II, C-III, D-IV
4. A-IV, B-I, C-II, D-III

Options :

485584133017. 1
485584133018. 2
485584133019. 3
485584133020. 4

Sub-Section Number :

2

Sub-Section Id :

4855842426

Question Shuffling Allowed :

No

Is Section Default? :

null

**Question Number : 191 Question Id : 48558433256 Question Type : MCQ Option Shuffling : No Is Question Mandatory :
No Calculator : None Response Time : N.A Think Time : N.A Minimum Instruction Time : 0**

Correct Marks : 5 Wrong Marks : 1

Question Key Details :

Key	Value
Comprehension	Comp1

Read the passage and answer 5 questions that follow:

High technology, or simply high-tech, is the latest generation of manufacturing activities. It is best understood as the application of intensive research and development (R and D) efforts leading to the manufacture of products of an advanced scientific and engineering character. Professional (white collar) workers make up a large share of the total workforce. These highly skilled specialists greatly outnumber the actual production (blue collar) workers. Robotics on the assembly line, computer-aided design (CAD) and manufacturing, electronic controls of smelting and refining processes, and the constant development of new chemical and pharmaceutical products are notable examples of a high-tech industry.

Neatly spaced, low, modern, dispersed, office-plant-lab buildings rather than massive assembly structures, factories and storage areas mark the-tech industrial landscape. Planned business parks for high-tech start-ups have become part of regional and local development schemes.

High-tech industries which are regionally concentrated, self-sustained and highly specialised are called technopolies. The Silicon Valley near San Francisco and Silicon Forest near Seattle are examples of technopolies.

Manufacturing contributes significantly to the world economy. Iron and steel, textiles, automobiles, petrochemicals and electronics are some of the world's most important manufacturing industries.

Which one of the following is not true about High-Tech industry?

1. High-Tech is latest manufacturing Industry
2. It is intensive research and development unit
3. It is traditionally located close to the raw materials
4. Absence of massive statements, factories, storage etc.

Options :

485584133021. 1

485584133022. 2

485584133023. 3

485584133024. 4

Question Number : 191 Question Id : 48558433256 Question Type : MCQ Option Shuffling : No Is Question Mandatory : No Calculator : None Response Time : N.A Think Time : N.A Minimum Instruction Time : 0

Correct Marks : 5 Wrong Marks : 1

Question Key Details :

Key	Value
Comprehension	Comp1

गद्यांश को पढ़िए और प्रश्नों के उत्तर दीजिए।

निर्माण क्रियाओं में उच्च प्रौद्योगिकी नवीनतम पीढ़ी है। इसमें उन्नत वैज्ञानिक एवं इंजीनियरिंग उत्पादकों का निर्माण गहन शोध एवं विकास के प्रयोग द्वारा किया जाता है। संपूर्ण श्रमिक शक्ति का अधिकतर भाग व्यावसायिक (सफ़ेद कॉलर) श्रमिकों का होता है। ये उच्च, दक्ष एवं विशिष्ट व्यावसायिक श्रमिक वास्तविक उत्पादन (नीला कॉलर) श्रमिकों से संख्या में अधिक होते हैं। उच्च प्रौद्योगिकी उद्योग में यंत्रमानव, कंप्यूटर आधारित डिज़ाइन (CAD) तथा निर्माण, धातु पिघलाने एवं शोधन के इलेक्ट्रॉनिक नियंत्रण एवं नए रासायनिक व औषधीय उत्पाद प्रमुख स्थान रखते हैं।

इस भूदृश्य में विशाल भवनों, कारखानों एवं भंडार क्षेत्रों के स्थान पर आधुनिक, नीचे साफ़-सुथरे, फ़ैले हुए कार्यालय एवं प्रयोगशालाएँ देखने को मिलती हैं। इस समय जो भी प्रादेशिक व स्थानीय विकास की योजनाएँ बन रही हैं उनमें नियोजित व्यवसाय पार्क का निर्माण किया जा रहा है। वे उच्च प्रौद्योगिकी उद्योग जो प्रादेशिक संकेंद्रित हैं, आत्मनिर्भर एवं उच्च विशिष्टता लिए होते हैं उन्हें प्रौद्योगिक ध्रुव कहा जाता है। सेन फ्रांसिस्को के समीप सिलीकन घाटी और सियटल के समीप सिलीकन वन प्रौद्योगिकी ध्रुव के उदहारण हैं।

विश्व अर्थव्यवस्था में निर्माण उद्योग का बड़ा योगदान है। लौह-इस्पात, वस्त्र, मोटर गाड़ी निर्माण, पेट्रो रसायन एवं इलेक्ट्रॉनिक्स विश्व के प्रमुख उद्योग हैं।

निम्न में से कौन सा एक उच्च प्रौद्योगिकी उद्योग के संदर्भ में सत्य नहीं है?

1. उच्च प्रौद्योगिकी नवीनतम विनिर्माण उद्योग है
2. यह गहन शोध और विकास इकाई है
3. यह परम्परागत रूप से कच्चे माल के निकट अवस्थित होती है
4. विशाल भवन, कारखानें, भंडार, इत्यादि की अनुपस्थिति

Options :

485584133021. 1
485584133022. 2
485584133023. 3
485584133024. 4

Question Number : 192 Question Id : 48558433257 Question Type : MCQ Option Shuffling : No Is Question Mandatory : No Calculator : None Response Time : N.A Think Time : N.A Minimum Instruction Time : 0

Correct Marks : 5 Wrong Marks : 1

Question Key Details :

Key	Value
Comprehension	Comp1

Read the passage and answer 5 questions that follow:

High technology, or simply high-tech, is the latest generation of manufacturing activities. It is best understood as the application of intensive research and development (R and D) efforts leading to the manufacture of products of an advanced scientific and engineering character. Professional (white collar) workers make up a large share of the total workforce. These highly skilled specialists greatly outnumber the actual production (blue collar) workers. Robotics on the assembly line, computer-aided design (CAD) and manufacturing, electronic controls of smelting and refining processes, and the constant development of new chemical and pharmaceutical products are notable examples of a high-tech industry.

Neatly spaced, low, modern, dispersed, office-plant-lab buildings rather than massive assembly structures, factories and storage areas mark the-tech industrial landscape. Planned business parks for high-tech start-ups have become part of regional and local development schemes.

High-tech industries which are regionally concentrated, self-sustained and highly specialised are called technopolies. The Silicon Valley near San Francisco and Silicon Forest near Seattle are examples of technopolies.

Manufacturing contributes significantly to the world economy. Iron and steel, textiles, automobiles, petrochemicals and electronics are some of the world's most important manufacturing industries.

Which one of the following are considered white collar workers?

1. Skilled specialist
2. Engineers
3. Farmers
4. Skilled workers

Options :

- 485584133025. 1
- 485584133026. 2
- 485584133027. 3
- 485584133028. 4

Question Number : 192 Question Id : 48558433257 Question Type : MCQ Option Shuffling : No Is Question Mandatory : No Calculator : None Response Time : N.A Think Time : N.A Minimum Instruction Time : 0

Correct Marks : 5 Wrong Marks : 1

Question Key Details :

Key	Value
Comprehension	Comp1

गद्यांश को पढ़िए और प्रश्नों के उत्तर दीजिए।

निर्माण क्रियाओं में उच्च प्रौद्योगिकी नवीनतम पीढ़ी है। इसमें उन्नत वैज्ञानिक एवं इंजीनियरिंग उत्पादकों का निर्माण गहन शोध एवं विकास के प्रयोग द्वारा किया जाता है। संपूर्ण श्रमिक शक्ति का अधिकतर भाग व्यावसायिक (सफेद कॉलर) श्रमिकों का होता है। ये उच्च, दक्ष एवं विशिष्ट व्यावसायिक श्रमिक वास्तविक उत्पादन (नीला कॉलर) श्रमिकों से संख्या में अधिक होते हैं। उच्च प्रौद्योगिकी उद्योग में यंत्रमानव, कंप्यूटर आधारित डिज़ाइन (CAD) तथा निर्माण, धातु पिघलाने एवं शोधन के इलेक्ट्रॉनिक नियंत्रण एवं नए रासायनिक व औषधीय उत्पाद प्रमुख स्थान रखते हैं।

इस भूदृश्य में विशाल भवनों, कारखानों एवं भंडार क्षेत्रों के स्थान पर आधुनिक, नीचे साफ़-सुथरे, फ़ैले हुए कार्यालय एवं प्रयोगशालाएँ देखने को मिलती हैं। इस समय जो भी प्रादेशिक व स्थानीय विकास की योजनाएँ बन रही हैं उनमें नियोजित व्यवसाय पार्क का निर्माण किया जा रहा है। वे उच्च प्रौद्योगिकी उद्योग जो प्रादेशिक संकेंद्रित हैं, आत्मनिर्भर एवं उच्च विशिष्टता लिए होते हैं उन्हें प्रौद्योगिक ध्रुव कहा जाता है। सेन फ्रांसिस्को के समीप सिलीकन घाटी और सियटल के समीप सिलीकन वन प्रौद्योगिकी ध्रुव के उदहारण हैं।

विश्व अर्थव्यवस्था में निर्माण उद्योग का बड़ा योगदान है। लौह-इस्पात, वस्त्र, मोटर गाड़ी निर्माण, पेट्रो रसायन एवं इलेक्ट्रॉनिक्स विश्व के प्रमुख उद्योग हैं।

निम्न में से किस एक को सफेद कॉलर श्रमिकों के रूप में जाना जाता है?

1. विशिष्ट दक्षता प्राप्त
2. इंजीनियर्स (अभियंतों)
3. किसानों
4. दक्षता प्राप्त श्रमिकों

Options :

485584133025. 1
485584133026. 2
485584133027. 3
485584133028. 4

Question Number : 193 Question Id : 48558433258 Question Type : MCQ Option Shuffling : No Is Question Mandatory : No Calculator : None Response Time : N.A Think Time : N.A Minimum Instruction Time : 0

Correct Marks : 5 Wrong Marks : 1

Question Key Details :

Key	Value
Comprehension	Comp1

Read the passage and answer 5 questions that follow:

High technology, or simply high-tech, is the latest generation of manufacturing activities. It is best understood as the application of intensive research and development (R and D) efforts leading to the manufacture of products of an advanced scientific and engineering character. Professional (white collar) workers make up a large share of the total workforce. These highly skilled specialists greatly outnumber the actual production (blue collar) workers. Robotics on the assembly line, computer-aided design (CAD) and manufacturing, electronic controls of smelting and refining processes, and the constant development of new chemical and pharmaceutical products are notable examples of a high-tech industry.

Neatly spaced, low, modern, dispersed, office-plant-lab buildings rather than massive assembly structures, factories and storage areas mark the-tech industrial landscape. Planned business parks for high-tech start-ups have become part of regional and local development schemes.

High-tech industries which are regionally concentrated, self-sustained and highly specialised are called technopolies. The Silicon Valley near San Francisco and Silicon Forest near Seattle are examples of technopolies.

Manufacturing contributes significantly to the world economy. Iron and steel, textiles, automobiles, petrochemicals and electronics are some of the world's most important manufacturing industries.

Which of the following are an example of high-technology industry?

1. Textile production
2. Robotics
3. CAD
4. Pharmaceutical

Options :

- 485584133029. 1
- 485584133030. 2
- 485584133031. 3
- 485584133032. 4

Question Number : 193 Question Id : 48558433258 Question Type : MCQ Option Shuffling : No Is Question Mandatory : No Calculator : None Response Time : N.A Think Time : N.A Minimum Instruction Time : 0

Correct Marks : 5 Wrong Marks : 1

Question Key Details :

Key	Value
Comprehension	Comp1

गद्यांश को पढ़िए और प्रश्नों के उत्तर दीजिए।

निर्माण क्रियाओं में उच्च प्रौद्योगिकी नवीनतम पीढ़ी है। इसमें उन्नत वैज्ञानिक एवं इंजीनियरिंग उत्पादकों का निर्माण गहन शोध एवं विकास के प्रयोग द्वारा किया जाता है। संपूर्ण श्रमिक शक्ति का अधिकतर भाग व्यावसायिक (सफ़ेद कॉलर) श्रमिकों का होता है। ये उच्च, दक्ष एवं विशिष्ट व्यावसायिक श्रमिक वास्तविक उत्पादन (नीला कॉलर) श्रमिकों से संख्या में अधिक होते हैं। उच्च प्रौद्योगिकी उद्योग में यंत्रमानव, कंप्यूटर आधारित डिज़ाइन (CAD) तथा निर्माण, धातु पिघलाने एवं शोधन के इलेक्ट्रॉनिक नियंत्रण एवं नए रासायनिक व औषधीय उत्पाद प्रमुख स्थान रखते हैं।

इस भूदृश्य में विशाल भवनों, कारखानों एवं भंडार क्षेत्रों के स्थान पर आधुनिक, नीचे साफ़-सुथरे, फ़ैले हुए कार्यालय एवं प्रयोगशालाएँ देखने को मिलती हैं। इस समय जो भी प्रादेशिक व स्थानीय विकास की योजनाएँ बन रही हैं उनमें नियोजित व्यवसाय पार्क का निर्माण किया जा रहा है। वे उच्च प्रौद्योगिकी उद्योग जो प्रादेशिक संकेंद्रित हैं, आत्मनिर्भर एवं उच्च विशिष्टता लिए होते हैं उन्हें प्रौद्योगिक ध्रुव कहा जाता है। सेन फ्रांसिस्को के समीप सिलिकन घाटी और सियटल के समीप सिलिकन वन प्रौद्योगिकी ध्रुव के उदाहरण हैं।

विश्व अर्थव्यवस्था में निर्माण उद्योग का बड़ा योगदान है। लौह-इस्पात, वस्त्र, मोटर गाड़ी निर्माण, पेट्रो रसायन एवं इलेक्ट्रॉनिक्स विश्व के प्रमुख उद्योग हैं।

निम्न में से कौन सा एक उच्च प्रौद्योगिकी उद्योग का उदाहरण है?

1. वस्त्र उत्पादन
2. यंत्र मानव
3. सी.ए.डी.
4. औषधीय

Options :

485584133029. 1
485584133030. 2
485584133031. 3
485584133032. 4

Question Number : 194 Question Id : 48558433259 Question Type : MCQ Option Shuffling : No Is Question Mandatory : No Calculator : None Response Time : N.A Think Time : N.A Minimum Instruction Time : 0

Correct Marks : 5 Wrong Marks : 1

Question Key Details :

Key	Value
Comprehension	Comp1

Read the passage and answer 5 questions that follow:

High technology, or simply high-tech, is the latest generation of manufacturing activities. It is best understood as the application of intensive research and development (R and D) efforts leading to the manufacture of products of an advanced scientific and engineering character. Professional (white collar) workers make up a large share of the total workforce. These highly skilled specialists greatly outnumber the actual production (blue collar) workers. Robotics on the assembly line, computer-aided design (CAD) and manufacturing, electronic controls of smelting and refining processes, and the constant development of new chemical and pharmaceutical products are notable examples of a high-tech industry.

Neatly spaced, low, modern, dispersed, office-plant-lab buildings rather than massive assembly structures, factories and storage areas mark the-tech industrial landscape. Planned business parks for high-tech start-ups have become part of regional and local development schemes.

High-tech industries which are regionally concentrated, self-sustained and highly specialised are called technopolies. The Silicon Valley near San Francisco and Silicon Forest near Seattle are examples of technopolies.

Manufacturing contributes significantly to the world economy. Iron and steel, textiles, automobiles, petrochemicals and electronics are some of the world's most important manufacturing industries.

Which of the following term is used for the usually concentrated, self-sustained and specialised industry?

1. Iron & steel Industry
2. Textile industry
3. Automobile industry
4. Technopolies

Options :

485584133033. 1
485584133034. 2
485584133035. 3
485584133036. 4

Question Number : 194 Question Id : 48558433259 Question Type : MCQ Option Shuffling : No Is Question Mandatory : No Calculator : None Response Time : N.A Think Time : N.A Minimum Instruction Time : 0

Correct Marks : 5 Wrong Marks : 1

Question Key Details :

Key	Value
Comprehension	Comp1

गद्यांश को पढ़िए और प्रश्नों के उत्तर दीजिए।

निर्माण क्रियाओं में उच्च प्रौद्योगिकी नवीनतम पीढ़ी है। इसमें उन्नत वैज्ञानिक एवं इंजीनियरिंग उत्पादकों का निर्माण गहन शोध एवं विकास के प्रयोग द्वारा किया जाता है। संपूर्ण श्रमिक शक्ति का अधिकतर भाग व्यावसायिक (सफ़ेद कॉलर) श्रमिकों का होता है। ये उच्च, दक्ष एवं विशिष्ट व्यावसायिक श्रमिक वास्तविक उत्पादन (नीला कॉलर) श्रमिकों से संख्या में अधिक होते हैं। उच्च प्रौद्योगिकी उद्योग में यंत्रमानव, कंप्यूटर आधारित डिज़ाइन (CAD) तथा निर्माण, धातु पिघलाने एवं शोधन के इलेक्ट्रॉनिक नियंत्रण एवं नए रासायनिक व औषधीय उत्पाद प्रमुख स्थान रखते हैं।

इस भूदृश्य में विशाल भवनों, कारखानों एवं भंडार क्षेत्रों के स्थान पर आधुनिक, नीचे साफ़-सुथरे, फ़ैले हुए कार्यालय एवं प्रयोगशालाएँ देखने को मिलती हैं। इस समय जो भी प्रादेशिक व स्थानीय विकास की योजनाएँ बन रही हैं उनमें नियोजित व्यवसाय पार्क का निर्माण किया जा रहा है। वे उच्च प्रौद्योगिकी उद्योग जो प्रादेशिक संकेंद्रित हैं, आत्मनिर्भर एवं उच्च विशिष्टता लिए होते हैं उन्हें प्रौद्योगिक ध्रुव कहा जाता है। सेन फ्रांसिस्को के समीप सिलीकन घाटी और सियटल के समीप सिलीकन वन प्रौद्योगिकी ध्रुव के उदहारण हैं।

विश्व अर्थव्यवस्था में निर्माण उद्योग का बड़ा योगदान है। लौह-इस्पात, वस्त्र, मोटर गाड़ी निर्माण, पेट्रो रसायन एवं इलेक्ट्रॉनिक्स विश्व के प्रमुख उद्योग हैं।

निम्न में से कौन से शब्दावली का प्रयोग संकेंद्रित आत्म-निर्भरता और विशिष्टता प्राप्त उद्योग के लिए किया जाता है?

1. लौह एवं इस्पात उद्योग
2. वस्त्र उद्योग
3. मोटर गाड़ी निर्माण उद्योग
4. प्रौद्योगिक ध्रुव

Options :

485584133033. 1
485584133034. 2
485584133035. 3
485584133036. 4

Question Number : 195 Question Id : 48558433260 Question Type : MCQ Option Shuffling : No Is Question Mandatory : No Calculator : None Response Time : N.A Think Time : N.A Minimum Instruction Time : 0

Correct Marks : 5 Wrong Marks : 1

Question Key Details :

Key	Value
Comprehension	Comp1

Read the passage and answer 5 questions that follow:

High technology, or simply high-tech, is the latest generation of manufacturing activities. It is best understood as the application of intensive research and development (R and D) efforts leading to the manufacture of products of an advanced scientific and engineering character. Professional (white collar) workers make up a large share of the total workforce. These highly skilled specialists greatly outnumber the actual production (blue collar) workers. Robotics on the assembly line, computer-aided design (CAD) and manufacturing, electronic controls of smelting and refining processes, and the constant development of new chemical and pharmaceutical products are notable examples of a high-tech industry.

Neatly spaced, low, modern, dispersed, office-plant-lab buildings rather than massive assembly structures, factories and storage areas mark the-tech industrial landscape. Planned business parks for high-tech start-ups have become part of regional and local development schemes.

High-tech industries which are regionally concentrated, self-sustained and highly specialised are called technopolies. The Silicon Valley near San Francisco and Silicon Forest near Seattle are examples of technopolies.

Manufacturing contributes significantly to the world economy. Iron and steel, textiles, automobiles, petrochemicals and electronics are some of the world's most important manufacturing industries.

Which of the following workers are greatly affected by High-Tech Industry?

1. White collar workers
2. Blue collar workers
3. Red collar workers
4. Grey collar workers

Options :

- 485584133037. 1
- 485584133038. 2
- 485584133039. 3
- 485584133040. 4

Question Number : 195 Question Id : 48558433260 Question Type : MCQ Option Shuffling : No Is Question Mandatory : No Calculator : None Response Time : N.A Think Time : N.A Minimum Instruction Time : 0

Correct Marks : 5 Wrong Marks : 1

Question Key Details :

Key	Value
Comprehension	Comp1

गद्यांश को पढ़िए और प्रश्नों के उत्तर दीजिए।

निर्माण क्रियाओं में उच्च प्रौद्योगिकी नवीनतम पीढ़ी है। इसमें उन्नत वैज्ञानिक एवं इंजीनियरिंग उत्पादकों का निर्माण गहन शोध एवं विकास के प्रयोग द्वारा किया जाता है। संपूर्ण श्रमिक शक्ति का अधिकतर भाग व्यायसायिक (सफ़ेद कॉलर) श्रमिकों का होता है। ये उच्च, दक्ष एवं विशिष्ट व्यावसायिक श्रमिक वास्तविक उत्पादन (नीला कॉलर) श्रमिकों से संख्या में अधिक होते हैं। उच्च प्रौद्योगिकी उद्योग में यंत्रमानव, कंप्यूटर आधारित डिज़ाइन (CAD) तथा निर्माण, धातु पिघलाने एवं शोधन के इलेक्ट्रॉनिक नियंत्रण एवं नए रासायनिक व औषधीय उत्पाद प्रमुख स्थान रखते हैं।

इस भूदृश्य में विशाल भवनों, कारखानों एवं भंडार क्षेत्रों के स्थान पर आधुनिक, नीचे साफ़-सुथरे, फ़ैले हुए कार्यालय एवं प्रयोगशालाएँ देखने को मिलती हैं। इस समय जो भी प्रादेशिक व स्थानीय विकास की योजनाएँ बन रही हैं उनमें नियोजित व्यवसाय पार्क का निर्माण किया जा रहा है। वे उच्च प्रौद्योगिकी उद्योग जो प्रादेशिक संकेंद्रित हैं, आत्मनिर्भर एवं उच्च विशिष्टता लिए होते हैं उन्हें प्रौद्योगिक ध्रुव कहा जाता है। सेन फ्रांसिस्को के समीप सिलीकन घाटी और सियटल के समीप सिलीकन वन प्रौद्योगिकी ध्रुव के उदहारण हैं।

विश्व अर्थव्यवस्था में निर्माण उद्योग का बड़ा योगदान है। लौह-इस्पात, वस्त्र, मोटर गाड़ी निर्माण, पेट्रो रसायन एवं इलेक्ट्रॉनिक्स विश्व के प्रमुख उद्योग हैं।

निम्न में से कौन से श्रमिक उच्च प्रौद्योगिकी उद्योग द्वारा अत्यधिक प्रभावित हुए हैं?

1. सफ़ेद कॉलर श्रमिक
2. नीला कॉलर श्रमिक
3. लाल कॉलर श्रमिक
4. ग्रे कॉलर श्रमिक

Options :

485584133037. 1
485584133038. 2
485584133039. 3
485584133040. 4

Sub-Section Number :

3

Sub-Section Id :

4855842427

Question Shuffling Allowed :

No

Is Section Default? :

null

Question Number : 196 Question Id : 48558433261 Question Type : MCQ Option Shuffling : No Is Question Mandatory : No Calculator : None Response Time : N.A Think Time : N.A Minimum Instruction Time : 0

Correct Marks : 5 Wrong Marks : 1

Question Key Details :

Key	Value
Comprehension	Comp2

Read the passage and answer 5 questions that follow:

Watershed management basically refers to efficient management and conservation of surface and groundwater resources. It involves prevention of runoff and shortage and recharge of groundwater through various methods like percolation tanks, Recharge wells, Etc. however. In broad sense watershed management includes conservation, Regeneration and judicious use of all resources- natural (like land water plants and animals) and human with in a watershed. Watershed management aims at bringing about balance between natural resources on the one hand and society on the other. The success of watershed development largely depends upon community participation.

The Central and State Government have initiated many watershed development and management programmes in the country, some of these are being implemented by non-government organisations also. Haryali is a watershed development project sponsored by the Central Government which aims at enabling the rural populations to conserve water for drinking, irrigation, fisheries and afforestation. The Project is being executed by Gram Panchayats with people's participation. Neeru-Meeru (water and you) programme (in Andhra Pradesh) and Arvary Pani Sansad (in Alwar Rajasthan) have taken up constructions of various water-harvesting structures such as percolation tanks, Dug out ponds (Johand), Check dams, etc... through people's participation. Tamil Nadu has made water harvesting structures in the houses compulsory. No building can be constructed without making structures for water harvesting.

watershed development projects in some areas have been successful in rejuvenating environment and economy. However, There are only a few success stories. In majority of cases, The programme is still in its nascent stage. There is a need to generate awareness regarding benefits of watershed development and management among people in the country, and through this integrated water resource management approach water availability can be ensured on sustainable basis.

What is watershed?

1. It is efficient management and conservation of surface and groundwater resources.
2. It is a system of equitable distribution of water in an area.
3. It is a method of storing the canal water.
4. It is harvesting of natural streams.

Options :

485584133041. 1

485584133042. 2

485584133043. 3

485584133044. 4

Question Number : 196 Question Id : 48558433261 Question Type : MCQ Option Shuffling : No Is Question Mandatory : No Calculator : None Response Time : N.A Think Time : N.A Minimum Instruction Time : 0

Correct Marks : 5 Wrong Marks : 1

Question Key Details :

Key	Value
Comprehension	Comp2

गद्यांश को पढ़िए और प्रश्नों के उत्तर दीजिए।

जल संभर प्रबंधन से तात्पर्य, मुख्य रूप से, धरातलीय और भूमि जल संसाधनों के दक्ष प्रबंधन से है। उसके अंतर्गत बहते जल को रोकना और विभिन्न विधियों, जैसे - अंतः सवण तालाब, पुनर्भरण शामिल हैं। तथापि, विस्तृत अर्थ में जल संभर प्रबंधन के अंतर्गत सभी संसाधनों-प्राकृतिक (जैसे - भूमि, जल, पौधे और प्राणियों) और जल संभर सहित मानवीय संसाधनों के संरक्षण, पुनरुत्पान और विवेकपूर्ण उपयोग को सम्मिलित किया जाता है। जल संभर प्रबंधन का उद्देश्य प्राकृतिक संसाधनों और समाज के बीच संतुलन लाना है। जल-संभर व्यवस्था की सफलता मुख्य रूप से संप्रदाय के सहयोग पर निर्भर करती है।

केंद्रीय और राज्य सरकारों ने देश में बहुत जल-संभर विकास और प्रबंधन कार्यक्रम चलाए हैं। इनमें से कुछ गैर सरकारी संगठनों द्वारा भी चलाए जा रहे हैं। 'हरियाली' केंद्र सरकार द्वारा प्रायोजित जल-संभर विकास परियोजना है जिसका उद्देश्य ग्रामीण जनसंख्या को पीने, सिंचाई, मत्स्य पालन और वन रोपण के लिए जल संरक्षण के लिए योग्य बनाता है। परियोजना लोगों के सहयोग से ग्राम पंचायतों द्वारा निष्पादित की जा रही है।

नीरू मीरू (जल और आप) कार्यक्रम (आंध्र प्रदेश में) और **अरवारी पानी संसद** (अलवर राजस्थान में) के अंतर्गत लोगों के सहयोग से विभिन्न जल संग्रहण संरचनाएँ जैसे - अंतः सवण तालाब ताल (जोहड़) की खुदाई की गई है और रोक बाँध बनाए गए हैं। तमिलनाडु में घरों में जल संग्रहण संरचना को बनाना आवश्यक कर दिया गया है। किसी भी इमारत का निर्माण बिना जल संग्रहण संरचना बनाए नहीं किया जा सकता है।

कुछ क्षेत्रों में जल-संभर विकास परियोजनाएँ पर्यावरण और अर्थव्यवस्था का कायाकल्प करने में सफल हुई हैं। फिर भी सफलता कुछ की ही कहानियाँ हैं। अधिकांश घटनाओं में कार्यक्रम अपनी उदीयमान अवस्था पर ही हैं। देश में लोगों के बीच जल संभर विकास और प्रबंधन के लाभों को बताकर जागरूकता उत्पन्न करने की आवश्यकता है और इस एकीकृत जल संसाधन प्रबंधन उपागम द्वारा जल उपलब्धता सतत पोषणीय आधार पर निश्चित रूप से की जा सकती है।

जल संभरण क्या है?

1. यह धरातलीय और भूमि जल संसाधनों के दक्ष प्रबंधन है।
2. यह एक क्षेत्र में पानी के समान वितरण की प्रणाली है।
3. यह नहर के पानी को संग्रह करने की एक विधि है।
4. यह प्राकृतिक धाराओं का संग्रहण है।

Options :

485584133041. 1
485584133042. 2
485584133043. 3
485584133044. 4

Question Number : 197 Question Id : 48558433262 Question Type : MCQ Option Shuffling : No Is Question Mandatory : No Calculator : None Response Time : N.A Think Time : N.A Minimum Instruction Time : 0

Correct Marks : 5 Wrong Marks : 1

Question Key Details :

Key	Value
Comprehension	Comp2

Read the passage and answer 5 questions that follow:

Watershed management basically refers to efficient management and conservation of surface and groundwater resources. It involves prevention of runoff and shortage and recharge of groundwater through various methods like percolation tanks. Recharge wells. Etc. however. In broad sense watershed management includes conservation. Regeneration and judicious use of all resources- natural (like land water plants and animals) and human with in a watershed. Watershed management aims at bringing about balance between natural resources on the one hand and society on the other. The success of watershed development largely depends upon community participation.

The Central and State Government have initiated many watershed development and management programmes in the country. some of these are being implemented by non-government organisations also. Haryali is a watershed development project sponsored by the Central Government which aims at enabling the rural populations to conserve water for drinking, irrigation, fisheries and afforestation. The Project is being executed by Gram Panchayats with people's participation. Neeru-Meeru (water and you) programme (in Andhra Pradesh) and Arvary Pani Sansad (in Alwar Rajasthan) have taken up constructions of various water-harvesting structures such as percolation tanks. Dug out ponds (Johand). Check dams. etc... through people's participation. Tamil Nadu has made water harvesting structures in the houses compulsory. No building can be constructed without making structures for water harvesting.

watershed development projects in some areas have been successful in rejuvenating environment and economy. However. There are only a few success stories. In majority of cases. The programme is still in its nascent stage. There is a need to generate awareness regarding benefits of watershed development and management among people in the country, and through this integrated water resource management approach water availability can be ensured on sustainable basis.

Out of which one is the success story of watershed management in India?

1. Ahmednagar, Maharashtra
2. Gandhi Nagar, Gujarat
3. Alwar, Rajasthan
4. Andhra Pradesh

Options :

485584133045. 1
485584133046. 2
485584133047. 3
485584133048. 4

Question Number : 197 Question Id : 48558433262 Question Type : MCQ Option Shuffling : No Is Question Mandatory : No Calculator : None Response Time : N.A Think Time : N.A Minimum Instruction Time : 0

Correct Marks : 5 Wrong Marks : 1

Question Key Details :

Key	Value
Comprehension	Comp2

गद्यांश को पढ़िए और प्रश्नों के उत्तर दीजिए।

जल संभर प्रबंधन से तात्पर्य, मुख्य रूप से, धरातलीय और भूमि जल संसाधनों के दक्ष प्रबंधन से है। उसके अंतर्गत बहते जल को रोकना और विभिन्न विधियों, जैसे - अंतः सवण तालाब, पुनर्भरण शामिल हैं। तथापि, विस्तृत अर्थ में जल संभर प्रबंधन के अंतर्गत सभी संसाधनों-प्राकृतिक (जैसे - भूमि, जल, पौधे और प्राणियों) और जल संभर सहित मानवीय संसाधनों के संरक्षण, पुनरुत्पान और विवेकपूर्ण उपयोग को सम्मिलित किया जाता है। जल संभर प्रबंधन का उद्देश्य प्राकृतिक संसाधनों और समाज के बीच संतुलन लाना है। जल-संभर व्यवस्था की सफलता मुख्य रूप से संप्रदाय के सहयोग पर निर्भर करती है।

केंद्रीय और राज्य सरकारों ने देश में बहुत जल-संभर विकास और प्रबंधन कार्यक्रम चलाए हैं। इनमें से कुछ गैर सरकारी संगठनों द्वारा भी चलाए जा रहे हैं। 'हरियाली' केंद्र सरकार द्वारा प्रायोजित जल-संभर विकास परियोजना है जिसका उद्देश्य ग्रामीण जनसंख्या को पीने, सिंचाई, मत्स्य पालन और वन रोपण के लिए जल संरक्षण के लिए योग्य बनाता है। परियोजना लोगों के सहयोग से ग्राम पंचायतों द्वारा निष्पादित की जा रही है।

नीरू मीरू (जल और आप) कार्यक्रम (आंध्र प्रदेश में) और **अरवारी पानी संसद** (अलवर राजस्थान में) के अंतर्गत लोगों के सहयोग से विभिन्न जल संग्रहण संरचनाएँ जैसे - अंतः सवण तालाब ताल (जोहड़) की खुदाई की गई है और रोक बाँध बनाए गए हैं। तमिलनाडु में घरों में जल संग्रहण संरचना को बनाना आवश्यक कर दिया गया है। किसी भी इमारत का निर्माण बिना जल संग्रहण संरचना बनाए नहीं किया जा सकता है।

कुछ क्षेत्रों में जल-संभर विकास परियोजनाएँ पर्यावरण और अर्थव्यवस्था का कायाकल्प करने में सफल हुई हैं। फिर भी सफलता कुछ की ही कहानियाँ हैं। अधिकांश घटनाओं में कार्यक्रम अपनी उदीयमान अवस्था पर ही हैं। देश में लोगों के बीच जल संभर विकास और प्रबंधन के लाभों को बताकर जागरूकता उत्पन्न करने की आवश्यकता है और इस एकीकृत जल संसाधन प्रबंधन उपागम द्वारा जल उपलब्धता सतत पोषणीय आधार पर निश्चित रूप से की जा सकती है।

भारत में कौन सी जल संभरण प्रबंधन की एक सफल कहानी है?

1. अहमदनगर, महाराष्ट्र
2. गाँधीनगर, गुजरात
3. अलवर, राजस्थान
4. आंध्र प्रदेश

Options :

485584133045. 1
485584133046. 2
485584133047. 3
485584133048. 4

Question Number : 198 Question Id : 48558433263 Question Type : MCQ Option Shuffling : No Is Question Mandatory : No Calculator : None Response Time : N.A Think Time : N.A Minimum Instruction Time : 0

Correct Marks : 5 Wrong Marks : 1

Question Key Details :

Key	Value
Comprehension	Comp2

Read the passage and answer 5 questions that follow:

Watershed management basically refers to efficient management and conservation of surface and groundwater resources. It involves prevention of runoff and shortage and recharge of groundwater through various methods like percolation tanks, Recharge wells, Etc. however. In broad sense watershed management includes conservation, Regeneration and judicious use of all resources- natural (like land water plants and animals) and human with in a watershed. Watershed management aims at bringing about balance between natural resources on the one hand and society on the other. The success of watershed development largely depends upon community participation.

The Central and State Government have initiated many watershed development and management programmes in the country, some of these are being implemented by non-government organisations also. Haryali is a watershed development project sponsored by the Central Government which aims at enabling the rural populations to conserve water for drinking, irrigation, fisheries and afforestation. The Project is being executed by Gram Panchayats with people's participation. Neeru-Meeru (water and you) programme (in Andhra Pradesh) and Arvary Pani Sansad (in Alwar Rajasthan) have taken up constructions of various water-harvesting structures such as percolation tanks, Dug out ponds (Johand), Check dams, etc... through people's participation. Tamil Nadu has made water harvesting structures in the houses compulsory. No building can be constructed without making structures for water harvesting.

watershed development projects in some areas have been successful in rejuvenating environment and economy. However, There are only a few success stories. In majority of cases, The programme is still in its nascent stage. There is a need to generate awareness regarding benefits of watershed development and management among people in the country, and through this integrated water resource management approach water availability can be ensured on sustainable basis.

Watershed Management largely depends upon the _____ .

1. Central and state Government
2. Community Participation
3. Management Programs
4. Development Projects

Options :

- 485584133049. 1
- 485584133050. 2
- 485584133051. 3
- 485584133052. 4

Question Number : 198 Question Id : 48558433263 Question Type : MCQ Option Shuffling : No Is Question Mandatory : No Calculator : None Response Time : N.A Think Time : N.A Minimum Instruction Time : 0

Correct Marks : 5 Wrong Marks : 1

Question Key Details :

Key	Value
Comprehension	Comp2

गद्यांश को पढ़िए और प्रश्नों के उत्तर दीजिए।

जल संभर प्रबंधन से तात्पर्य, मुख्य रूप से, धरातलीय और भूमि जल संसाधनों के दक्ष प्रबंधन से है। उसके अंतर्गत बहते जल को रोकना और विभिन्न विधियों, जैसे - अंतः सवण तालाब, पुनर्भरण शामिल हैं। तथापि, विस्तृत अर्थ में जल संभर प्रबंधन के अंतर्गत सभी संसाधनों-प्राकृतिक (जैसे - भूमि, जल, पौधे और प्राणियों) और जल संभर सहित मानवीय संसाधनों के संरक्षण, पुनरुत्पान और विवेकपूर्ण उपयोग को सम्मिलित किया जाता है। जल संभर प्रबंधन का उद्देश्य प्राकृतिक संसाधनों और समाज के बीच संतुलन लाना है। जल-संभर व्यवस्था की सफलता मुख्य रूप से संप्रदाय के सहयोग पर निर्भर करती है।

केंद्रीय और राज्य सरकारों ने देश में बहुत जल-संभर विकास और प्रबंधन कार्यक्रम चलाए हैं। इनमें से कुछ गैर सरकारी संगठनों द्वारा भी चलाए जा रहे हैं। 'हरियाली' केंद्र सरकार द्वारा प्रायोजित जल-संभर विकास परियोजना है जिसका उद्देश्य ग्रामीण जनसंख्या को पीने, सिंचाई, मत्स्य पालन और वन रोपण के लिए जल संरक्षण के लिए योग्य बनाता है। परियोजना लोगों के सहयोग से ग्राम पंचायतों द्वारा निष्पादित की जा रही है।

नीरू मीरू (जल और आप) कार्यक्रम (आंध्र प्रदेश में) और **अरवारी पानी संसद** (अलवर राजस्थान में) के अंतर्गत लोगों के सहयोग से विभिन्न जल संग्रहण संरचनाएँ जैसे - अंतः सवण तालाब ताल (जोहड़) की खुदाई की गई है और रोक बाँध बनाए गए हैं। तमिलनाडु में घरों में जल संग्रहण संरचना को बनाना आवश्यक कर दिया गया है। किसी भी इमारत का निर्माण बिना जल संग्रहण संरचना बनाए नहीं किया जा सकता है।

कुछ क्षेत्रों में जल-संभर विकास परियोजनाएँ पर्यावरण और अर्थव्यवस्था का कायाकल्प करने में सफल हुई हैं। फिर भी सफलता कुछ की ही कहानियाँ हैं। अधिकांश घटनाओं में कार्यक्रम अपनी उदीयमान अवस्था पर ही हैं। देश में लोगों के बीच जल संभर विकास और प्रबंधन के लाभों को बताकर जागरूकता उत्पन्न करने की आवश्यकता है और इस एकीकृत जल संसाधन प्रबंधन उपागम द्वारा जल उपलब्धता सतत पोषणीय आधार पर निश्चित रूप से की जा सकती है।

जलसंभार प्रबंधन बडे स्तर पर _____ पर निर्भर है।

1. केन्द्रीय और राज्य सरकार
2. सामुदायिक भागीदारी
3. प्रबंधन कार्यक्रमों
4. विकास कार्यक्रमों

Options :

485584133049. 1
485584133050. 2
485584133051. 3
485584133052. 4

Question Number : 199 Question Id : 48558433264 Question Type : MCQ Option Shuffling : No Is Question Mandatory : No Calculator : None Response Time : N.A Think Time : N.A Minimum Instruction Time : 0

Correct Marks : 5 Wrong Marks : 1

Question Key Details :

Key	Value
Comprehension	Comp2

Read the passage and answer 5 questions that follow:

Watershed management basically refers to efficient management and conservation of surface and groundwater resources. It involves prevention of runoff and shortage and recharge of groundwater through various methods like percolation tanks, Recharge wells, Etc. however. In broad sense watershed management includes conservation, Regeneration and judicious use of all resources- natural (like land water plants and animals) and human with in a watershed. Watershed management aims at bringing about balance between natural resources on the one hand and society on the other. The success of watershed development largely depends upon community participation.

The Central and State Government have initiated many watershed development and management programmes in the country, some of these are being implemented by non-government organisations also. Haryali is a watershed development project sponsored by the Central Government which aims at enabling the rural populations to conserve water for drinking, irrigation, fisheries and afforestation. The Project is being executed by Gram Panchayats with people's participation. Neeru-Meeru (water and you) programme (in Andhra Pradesh) and Arvary Pani Sansad (in Alwar Rajasthan) have taken up constructions of various water-harvesting structures such as percolation tanks, Dug out ponds (Johand), Check dams, etc... through people's participation. Tamil Nadu has made water harvesting structures in the houses compulsory. No building can be constructed without making structures for water harvesting.

watershed development projects in some areas have been successful in rejuvenating environment and economy. However, There are only a few success stories. In majority of cases, The programme is still in its nascent stage. There is a need to generate awareness regarding benefits of watershed development and management among people in the country, and through this integrated water resource management approach water availability can be ensured on sustainable basis.

Which watershed development project is Sponsored by Central Government?

1. Arvary Pani Sansad
2. Compulsory water harvesting structures in all houses
3. Neeru-Meeru
4. Haryali

Options :

- 485584133053. 1
- 485584133054. 2
- 485584133055. 3
- 485584133056. 4

Question Number : 199 Question Id : 48558433264 Question Type : MCQ Option Shuffling : No Is Question Mandatory : No Calculator : None Response Time : N.A Think Time : N.A Minimum Instruction Time : 0

Correct Marks : 5 Wrong Marks : 1

Question Key Details :

Key	Value
Comprehension	Comp2

गद्यांश को पढ़िए और प्रश्नों के उत्तर दीजिए।

जल संभर प्रबंधन से तात्पर्य, मुख्य रूप से, धरातलीय और भूमि जल संसाधनों के दक्ष प्रबंधन से है। उसके अंतर्गत बहते जल को रोकना और विभिन्न विधियों, जैसे - अंतः सवण तालाब, पुनर्भरण शामिल हैं। तथापि, विस्तृत अर्थ में जल संभर प्रबंधन के अंतर्गत सभी संसाधनों-प्राकृतिक (जैसे - भूमि, जल, पौधे और प्राणियों) और जल संभर सहित मानवीय संसाधनों के संरक्षण, पुनरुत्पान और विवेकपूर्ण उपयोग को सम्मिलित किया जाता है। जल संभर प्रबंधन का उद्देश्य प्राकृतिक संसाधनों और समाज के बीच संतुलन लाना है। जल-संभर व्यवस्था की सफलता मुख्य रूप से संप्रदाय के सहयोग पर निर्भर करती है।

केंद्रीय और राज्य सरकारों ने देश में बहुत जल-संभर विकास और प्रबंधन कार्यक्रम चलाए हैं। इनमें से कुछ गैर सरकारी संगठनों द्वारा भी चलाए जा रहे हैं। 'हरियाली' केंद्र सरकार द्वारा प्रायोजित जल-संभर विकास परियोजना है जिसका उद्देश्य ग्रामीण जनसंख्या को पीने, सिंचाई, मत्स्य पालन और वन रोपण के लिए जल संरक्षण के लिए योग्य बनाता है। परियोजना लोगों के सहयोग से ग्राम पंचायतों द्वारा निष्पादित की जा रही है।

नीरू-मीरू (जल और आप) कार्यक्रम (आंध्र प्रदेश में) और **अरवारी पानी संसद** (अलवर राजस्थान में) के अंतर्गत लोगों के सहयोग से विभिन्न जल संग्रहण संरचनाएँ जैसे - अंतः सवण तालाब ताल (जोहड़) की खुदाई की गई है और रोक बाँध बनाए गए हैं। तमिलनाडु में घरों में जल संग्रहण संरचना को बनाना आवश्यक कर दिया गया है। किसी भी इमारत का निर्माण बिना जल संग्रहण संरचना बनाए नहीं किया जा सकता है।

कुछ क्षेत्रों में जल-संभर विकास परियोजनाएँ पर्यावरण और अर्थव्यवस्था का कायाकल्प करने में सफल हुई हैं। फिर भी सफलता कुछ की ही कहानियाँ हैं। अधिकांश घटनाओं में कार्यक्रम अपनी उदीयमान अवस्था पर ही हैं। देश में लोगों के बीच जल संभर विकास और प्रबंधन के लाभों को बताकर जागरूकता उत्पन्न करने की आवश्यकता है और इस एकीकृत जल संसाधन प्रबंधन उपागम द्वारा जल उपलब्धता सतत पोषणीय आधार पर निश्चित रूप से की जा सकती है।

कौन सा जलसंभर विकास कार्यक्रम केन्द्रीय सरकार द्वारा प्रायोजित है?

1. अरवारी पानी संसद।
2. सभी घरों में अनिवार्य जलसंग्रहण अवसंरचनाएं।
3. नीरू-मीरू.
4. हरियाली.

Options :

485584133053. 1
485584133054. 2
485584133055. 3
485584133056. 4

Question Number : 200 Question Id : 48558433265 Question Type : MCQ Option Shuffling : No Is Question Mandatory : No Calculator : None Response Time : N.A Think Time : N.A Minimum Instruction Time : 0

Correct Marks : 5 Wrong Marks : 1

Question Key Details :

Key	Value
Comprehension	Comp2

Read the passage and answer 5 questions that follow:

Watershed management basically refers to efficient management and conservation of surface and groundwater resources. It involves prevention of runoff and shortage and recharge of groundwater through various methods like percolation tanks, Recharge wells, Etc. however. In broad sense watershed management includes conservation, Regeneration and judicious use of all resources- natural (like land water plants and animals) and human with in a watershed. Watershed management aims at bringing about balance between natural resources on the one hand and society on the other. The success of watershed development largely depends upon community participation.

The Central and State Government have initiated many watershed development and management programmes in the country, some of these are being implemented by non-government organisations also. Haryali is a watershed development project sponsored by the Central Government which aims at enabling the rural populations to conserve water for drinking, irrigation, fisheries and afforestation. The Project is being executed by Gram Panchayats with people's participation. Neeru-Meeru (water and you) programme (in Andhra Pradesh) and Arvary Pani Sansad (in Alwar Rajasthan) have taken up constructions of various water-harvesting structures such as percolation tanks, Dug out ponds (Johand), Check dams, etc... through people's participation. Tamil Nadu has made water harvesting structures in the houses compulsory. No building can be constructed without making structures for water harvesting.

watershed development projects in some areas have been successful in rejuvenating environment and economy. However, There are only a few success stories. In majority of cases, The programme is still in its nascent stage. There is a need to generate awareness regarding benefits of watershed development and management among people in the country, and through this integrated water resource management approach water availability can be ensured on sustainable basis.

Which of the following watershed management programme was started in Rajasthan?

1. Arvary Pani Sansad
2. Neeru-Meeru
3. Haryali
4. Water harvesting

Options :

- 485584133057. 1
- 485584133058. 2
- 485584133059. 3
- 485584133060. 4

Question Number : 200 Question Id : 48558433265 Question Type : MCQ Option Shuffling : No Is Question Mandatory : No Calculator : None Response Time : N.A Think Time : N.A Minimum Instruction Time : 0

Correct Marks : 5 Wrong Marks : 1

Question Key Details :

Key	Value
Comprehension	Comp2

गद्यांश को पढ़िए और प्रश्नों के उत्तर दीजिए।

जल संभर प्रबंधन से तात्पर्य, मुख्य रूप से, धरातलीय और भूमि जल संसाधनों के दक्ष प्रबंधन से है। उसके अंतर्गत बहते जल को रोकना और विभिन्न विधियों, जैसे - अंतः सवण तालाब, पुनर्भरण शामिल हैं। तथापि, विस्तृत अर्थ में जल संभर प्रबंधन के अंतर्गत सभी संसाधनों-प्राकृतिक (जैसे - भूमि, जल, पौधे और प्राणियों) और जल संभर सहित मानवीय संसाधनों के संरक्षण, पुनरुत्पान और विवेकपूर्ण उपयोग को सम्मिलित किया जाता है। जल संभर प्रबंधन का उद्देश्य प्राकृतिक संसाधनों और समाज के बीच संतुलन लाना है। जल-संभर व्यवस्था की सफलता मुख्य रूप से संप्रदाय के सहयोग पर निर्भर करती है।

केंद्रीय और राज्य सरकारों ने देश में बहुत जल-संभर विकास और प्रबंधन कार्यक्रम चलाए हैं। इनमें से कुछ गैर सरकारी संगठनों द्वारा भी चलाए जा रहे हैं। 'हरियाली' केंद्र सरकार द्वारा प्रायोजित जल-संभर विकास परियोजना है जिसका उद्देश्य ग्रामीण जनसंख्या को पीने, सिंचाई, मत्स्य पालन और वन रोपण के लिए जल संरक्षण के लिए योग्य बनाता है। परियोजना लोगों के सहयोग से ग्राम पंचायतों द्वारा निष्पादित की जा रही है।

नीरू-मीरू (जल और आप) कार्यक्रम (आंध्र प्रदेश में) और **अरवारी पानी संसद** (अलवर राजस्थान में) के अंतर्गत लोगों के सहयोग से विभिन्न जल संग्रहण संरचनाएँ जैसे - अंतः सवण तालाब ताल (जोहड़) की खुदाई की गई है और रोक बाँध बनाए गए हैं। तमिलनाडु में घरों में जल संग्रहण संरचना को बनाना आवश्यक कर दिया गया है। किसी भी इमारत का निर्माण बिना जल संग्रहण संरचना बनाए नहीं किया जा सकता है।

कुछ क्षेत्रों में जल-संभर विकास परियोजनाएँ पर्यावरण और अर्थव्यवस्था का कायाकल्प करने में सफल हुई हैं। फिर भी सफलता कुछ की ही कहानियाँ हैं। अधिकांश घटनाओं में कार्यक्रम अपनी उदीयमान अवस्था पर ही हैं। देश में लोगों के बीच जल संभर विकास और प्रबंधन के लाभों को बताकर जागरूकता उत्पन्न करने की आवश्यकता है और इस एकीकृत जल संसाधन प्रबंधन उपागम द्वारा जल उपलब्धता सतत पोषणीय आधार पर निश्चित रूप से की जा सकती है।

निम्न में से कौन सा जलसंभर प्रबंधन कार्यक्रम, राजस्थान में आरम्भ हुआ था?

1. अरवारी पानी संसद
2. नीरू-मीरू
3. हरियाली
4. जल संग्रहण

Options :

485584133057. 1
485584133058. 2
485584133059. 3
485584133060. 4

History

Group Number :	8
Group Id :	485584746
Group Maximum Duration :	45
Group Minimum Duration :	45
Show Attended Group? :	No
Edit Attended Group? :	No

Break time : 0
Group Marks : 200
Is this Group for Examiner? : No
Examiner permission : Cant View
Show Progress Bar? : No

History

Section Id : 485584860
Section Number : 1
Section type : Online
Mandatory or Optional : Mandatory
Number of Questions : 50
Number of Questions to be attempted : 40
Section Marks : 200
Enable Mark as Answered Mark for Review and Clear Response : Yes
Maximum Instruction Time : 0
Sub-Section Number : 1
Sub-Section Id : 4855842428
Question Shuffling Allowed : Yes
Is Section Default? : null

Question Number : 201 Question Id : 48558433316 Question Type : MCQ Option Shuffling : No Is Question Mandatory : No Calculator : None Response Time : N.A Think Time : N.A Minimum Instruction Time : 0

Correct Marks : 5 Wrong Marks : 1

Question Key Details :

Key	Value
Comprehension	MCQ

Who amongst the following was the engraver of Prabhavati Gupta's inscription?

1. Banabhatta
2. Chakradasa
3. Nagapiya
4. Sovanika

Options :

485584133261. 1
485584133262. 2
485584133263. 3
485584133264. 4

Question Number : 201 Question Id : 48558433316 Question Type : MCQ Option Shuffling : No Is Question Mandatory : No Calculator : None Response Time : N.A Think Time : N.A Minimum Instruction Time : 0

Correct Marks : 5 Wrong Marks : 1

Question Key Details :

Key	Value
Comprehension	MCQ

निम्न में से कौन प्रभावती गुप्त के अभिलेख का उत्कीर्णक था?

1. बाणभट्ट
2. चक्रदास
3. नागपिय
4. सोवाणिक

Options :

485584133261. 1
485584133262. 2
485584133263. 3
485584133264. 4

Question Number : 202 Question Id : 48558433317 Question Type : MCQ Option Shuffling : No Is Question Mandatory : No Calculator : None Response Time : N.A Think Time : N.A Minimum Instruction Time : 0

Correct Marks : 5 Wrong Marks : 1

Question Key Details :

Key	Value
Comprehension	MCQ

How many 'Mahajanapadas' are there in total?

1. Fourteen
2. Six
3. Sixteen
4. Twelve

Options :

485584133265. 1
485584133266. 2
485584133267. 3
485584133268. 4

Question Number : 202 Question Id : 48558433317 Question Type : MCQ Option Shuffling : No Is Question Mandatory : No Calculator : None Response Time : N.A Think Time : N.A Minimum Instruction Time : 0

Correct Marks : 5 Wrong Marks : 1

Question Key Details :

Key	Value
Comprehension	MCQ

कुल कितने महाजनपद हैं?

1. चौदह
2. छः
3. सोलह
4. बारह

Options :

485584133265. 1
485584133266. 2
485584133267. 3
485584133268. 4

Question Number : 203 Question Id : 48558433318 Question Type : MCQ Option Shuffling : No Is Question Mandatory : No Calculator : None Response Time : N.A Think Time : N.A Minimum Instruction Time : 0

Correct Marks : 5 Wrong Marks : 1

Question Key Details :

Key	Value
Comprehension	MCQ

The Sangam texts mention categories of people living in the villages. Identify the categories:

- A. Masattuvar
- B. Setthis
- C. Uzhavar
- D. Adimai
- E. Vellalar

Choose the **correct** answer from the options given below:

1. A, B, C only
2. B, C, D only
3. C, D, E only
4. A, C, E only

Options :

485584133269. 1
485584133270. 2
485584133271. 3
485584133272. 4

Question Number : 203 Question Id : 48558433318 Question Type : MCQ Option Shuffling : No Is Question Mandatory : No Calculator : None Response Time : N.A Think Time : N.A Minimum Instruction Time : 0

Correct Marks : 5 Wrong Marks : 1

Question Key Details :

Key	Value
Comprehension	MCQ

संगम साहित्य में ग्रामीण वासियों को विभिन्न श्रेणियों में बाटाँ गया है। इस श्रेणियों की पहचान करें:

- A. मासातुवाद
- B. सेढी
- C. उज्जहावर
- D. अदिमई
- E. वेल्लार

नीचे दिए गए विकल्पों में से सही उत्तर का चयन करें:

1. केवल A, B, C
2. केवल B, C, D
3. केवल C, D, E
4. केवल A, C, E

Options :

- 485584133269. 1
- 485584133270. 2
- 485584133271. 3
- 485584133272. 4

Question Number : 204 Question Id : 48558433319 Question Type : MCQ Option Shuffling : No Is Question Mandatory : No Calculator : None Response Time : N.A Think Time : N.A Minimum Instruction Time : 0

Correct Marks : 5 Wrong Marks : 1

Question Key Details :

Key	Value
Comprehension	MCQ

Identify the writer of the play titled 'Mrichchhakatika'?

1. Vasistha
2. Shudraka
3. Gotama
4. Panini

Options :

- 485584133273. 1
- 485584133274. 2
- 485584133275. 3
- 485584133276. 4

Question Number : 204 Question Id : 48558433319 Question Type : MCQ Option Shuffling : No Is Question Mandatory : No Calculator : None Response Time : N.A Think Time : N.A Minimum Instruction Time : 0

Correct Marks : 5 Wrong Marks : 1

Question Key Details :

Key	Value
Comprehension	MCQ

मृच्छकटिकम् नाटक के लेखक का नाम पहचानें?

1. वशिष्ठ
2. शूद्रक
3. गौतम
4. पाणिनी

Options :

485584133273. 1
485584133274. 2
485584133275. 3
485584133276. 4

Question Number : 205 Question Id : 48558433320 Question Type : MCQ Option Shuffling : No Is Question Mandatory : No Calculator : None Response Time : N.A Think Time : N.A Minimum Instruction Time : 0

Correct Marks : 5 Wrong Marks : 1

Question Key Details :

Key	Value
Comprehension	MCQ

Abdur Razzaq Samarqandi gave important description of which city?

1. Delhi
2. Vijayanagara
3. Suntra
4. Magadha

Options :

485584133277. 1
485584133278. 2
485584133279. 3
485584133280. 4

Question Number : 205 Question Id : 48558433320 Question Type : MCQ Option Shuffling : No Is Question Mandatory : No Calculator : None Response Time : N.A Think Time : N.A Minimum Instruction Time : 0

Correct Marks : 5 Wrong Marks : 1

Question Key Details :

Key	Value
Comprehension	MCQ

अब्दुर रज़्जाक समरकंदी ने किस शहर के महत्वपूर्ण विवरण दिए हैं?

1. दिल्ली
2. विजय नगर
3. सुमत्रा
4. मगध

Options :

485584133277. 1
485584133278. 2
485584133279. 3
485584133280. 4

Question Number : 206 Question Id : 48558433321 Question Type : MCQ Option Shuffling : No Is Question Mandatory : No Calculator : None Response Time : N.A Think Time : N.A Minimum Instruction Time : 0

Correct Marks : 5 Wrong Marks : 1

Question Key Details :

Key	Value
Comprehension	MCQ

From Malabar he went to Maldives, where he stayed for 10 months as qazi, but eventually decided to go to Sri Lanka. He took a ship to Sumatra and from there another ship to Chinese town Zaytun. He travelled extensively in China. Who was he?

1. Ibn Battuta
2. Al-Biruni
3. Bernier
4. Hiuen-Tsang

Options :

485584133281. 1
485584133282. 2
485584133283. 3
485584133284. 4

Question Number : 206 Question Id : 48558433321 Question Type : MCQ Option Shuffling : No Is Question Mandatory : No Calculator : None Response Time : N.A Think Time : N.A Minimum Instruction Time : 0

Correct Marks : 5 Wrong Marks : 1

Question Key Details :

Key	Value
Comprehension	MCQ

मालाबार से वह मालद्वीप गया, जहाँ वह दस महीनों तक काजी के पद पर रहा। अततः उसने श्रीलंका जाने का निश्चय किया। वह जहाज से सुमात्रा गया और सुमात्रा से एक अन्य जहाज से चीनी के जायतुन नगर के बंदरगाह पर पहुँचा। उसने व्यापक रूप से चीन में यात्रा की। वह यात्री कौन था?

1. इब्र बतूता
2. अल-बिरुनी
3. बर्नियर
4. ह्वेन-त्सांग

Options :

485584133281. 1
485584133282. 2
485584133283. 3
485584133284. 4

Question Number : 207 Question Id : 48558433322 Question Type : MCQ Option Shuffling : No Is Question Mandatory : No Calculator : None Response Time : N.A Think Time : N.A Minimum Instruction Time : 0

Correct Marks : 5 Wrong Marks : 1

Question Key Details :

Key	Value
Comprehension	MCQ

Mirabai, the best-known women poet of the bhakti tradition was Rajput princess from:-

1. Mewar
2. Marwar
3. Gujarat
4. Delhi

Options :

485584133285. 1
485584133286. 2
485584133287. 3
485584133288. 4

Question Number : 207 Question Id : 48558433322 Question Type : MCQ Option Shuffling : No Is Question Mandatory : No Calculator : None Response Time : N.A Think Time : N.A Minimum Instruction Time : 0

Correct Marks : 5 Wrong Marks : 1

Question Key Details :

Key	Value
Comprehension	MCQ

मीराबाई, भक्ति परंपरा की एक प्रसिद्ध महिला कवियित्री किस राजपूत घराने से थी :

1. मेवाड़
2. मारवाड़
3. गुजरात
4. दिल्ली

Options :

485584133285. 1
485584133286. 2
485584133287. 3
485584133288. 4

Question Number : 208 Question Id : 48558433323 Question Type : MCQ Option Shuffling : No Is Question Mandatory : No Calculator : None Response Time : N.A Think Time : N.A Minimum Instruction Time : 0

Correct Marks : 5 Wrong Marks : 1

Question Key Details :

Key	Value
Comprehension	MCQ

Which among the following religious teachers are associated with Punjab?

- A. Tukaram
- B. Ganj Bakhsh
- C. Miyan Mir
- D. Fariduddin Ganj-i-Shakar
- E. Raidas

Choose the **correct** answer from the options given below:

1. A, B, C only
2. B, C, D only
3. C, D, E only
4. A, C, E only

Options :

485584133289. 1
485584133290. 2
485584133291. 3
485584133292. 4

Question Number : 208 Question Id : 48558433323 Question Type : MCQ Option Shuffling : No Is Question Mandatory : No Calculator : None Response Time : N.A Think Time : N.A Minimum Instruction Time : 0

Correct Marks : 5 Wrong Marks : 1

Question Key Details :

Key	Value
-----	-------

इनमें से कौन से धार्मिक शिक्षक पंजाब से संबंधित हैं?

- A. तुकाराम
- B. गंज बक्श
- C. मियाँ मीर
- D. शेख फरिदुदीन गंज-ए-शकर
- E. सायदास

नीचे दिए गए विकल्पों में से सही उत्तर का चयन करें:

1. केवल A, B, C
2. केवल B, C, D
3. केवल C, D, E
4. केवल A, C, E

Options :

- 485584133289. 1
- 485584133290. 2
- 485584133291. 3
- 485584133292. 4

Question Number : 209 Question Id : 48558433324 Question Type : MCQ Option Shuffling : No Is Question Mandatory : No Calculator : None Response Time : N.A Think Time : N.A Minimum Instruction Time : 0

Correct Marks : 5 Wrong Marks : 1

Question Key Details :

Key	Value
Comprehension	MCQ

Match List I with List II:-

LIST I (Terms)		LIST II (Meaning)	
A.	Zimmi	I.	Tomb Shrine
B.	Jizya	II.	Protected
C.	Dargah	III.	Pilgrimage
D.	Ziyarat	IV.	A religious tax paid by Hindus

Choose the **correct** answer from the options given below:

1. A-I, B-II, C-IV, D-III
2. A-II, B-IV, C-III, D-I
3. A-IV, B-III, C-II, D-I
4. A-II, B-IV, C-I, D-III

Options :

- 485584133293. 1
- 485584133294. 2
- 485584133295. 3

Question Number : 209 Question Id : 48558433324 Question Type : MCQ Option Shuffling : No Is Question Mandatory : No Calculator : None Response Time : N.A Think Time : N.A Minimum Instruction Time : 0

Correct Marks : 5 Wrong Marks : 1

Question Key Details :

Key	Value
Comprehension	MCQ

सूची I का सूची II से मिलान कीजिए

सूची I		सूची II	
A.	ज़िम्मी	I.	गुंबदनुमा मंदिर
B.	ज़ज़िया	II.	सरंक्षक
C.	दरगाह	III.	तीर्थयात्री
D.	ज़ियारत	IV.	हिंदुओं द्वारा दीया जाने वाला धार्मिक कर

निम्नलिखित विकल्पों में से सही उत्तर का चयन कीजिए :

1. A-I, B-II, C-IV, D-III
2. A-II, B-IV, C-III, D-I
3. A-IV, B-III, C-II, D-I
4. A-II, B-IV, C-I, D-III

Options :

485584133293. 1
485584133294. 2
485584133295. 3
485584133296. 4

Question Number : 210 Question Id : 48558433325 Question Type : MCQ Option Shuffling : No Is Question Mandatory : No Calculator : None Response Time : N.A Think Time : N.A Minimum Instruction Time : 0

Correct Marks : 5 Wrong Marks : 1

Question Key Details :

Key	Value
Comprehension	MCQ

Which of the following is considered as one of the most spectacular temple in the Vijayanagara Empire?

1. Vitthala Temple
2. Virupaksha Temple
3. Hazara Rama Temple
4. Brihadishvara Temple

Options :

485584133297. 1
485584133298. 2

485584133299. 3

485584133300. 4

Question Number : 210 Question Id : 48558433325 Question Type : MCQ Option Shuffling : No Is Question Mandatory : No Calculator : None Response Time : N.A Think Time : N.A Minimum Instruction Time : 0

Correct Marks : 5 Wrong Marks : 1

Question Key Details :

Key	Value
Comprehension	MCQ

इनमें से कौन सा विजयनगर साम्राज्य का दर्शनीय मंदिर माना जाता है?

1. विठ्ठल मंदिर
2. विरुपाक्ष मंदिर
3. हजारा राम मंदिर
4. वृहदेश्वर मंदिर

Options :

485584133297. 1

485584133298. 2

485584133299. 3

485584133300. 4

Question Number : 211 Question Id : 48558433326 Question Type : MCQ Option Shuffling : No Is Question Mandatory : No Calculator : None Response Time : N.A Think Time : N.A Minimum Instruction Time : 0

Correct Marks : 5 Wrong Marks : 1

Question Key Details :

Key	Value
Comprehension	MCQ

In which year did Krishnadeva Raya defeat the sultan of Bijapur?

1. 1529
2. 1520
3. 1514
4. 1512

Options :

485584133301. 1

485584133302. 2

485584133303. 3

485584133304. 4

Question Number : 211 Question Id : 48558433326 Question Type : MCQ Option Shuffling : No Is Question Mandatory : No Calculator : None Response Time : N.A Think Time : N.A Minimum Instruction Time : 0

Correct Marks : 5 Wrong Marks : 1

Question Key Details :

Key	Value
-----	-------

कृष्ण देव राय ने बीजापुर के सुल्तान को किस वर्ष में हराया?

1. 1529
2. 1520
3. 1514
4. 1512

Options :

485584133301. 1
485584133302. 2
485584133303. 3
485584133304. 4

Question Number : 212 Question Id : 48558433327 Question Type : MCQ Option Shuffling : No Is Question Mandatory : No Calculator : None Response Time : N.A Think Time : N.A Minimum Instruction Time : 0

Correct Marks : 5 Wrong Marks : 1

Question Key Details :

Key	Value
Comprehension	MCQ

Arrange the establishment of the following kingdoms in a chronological order:

- A. Emergence of the Sultanates of Ahmadnagar, Bijapur and Berar
- B. Establishment of Bahmani Kingdom.
- C. Establishment of Vijayanagara Empire.
- D. Establishment of the Sultanate of Golconda.
- E. Conquest of Goa by the Portuguese

Choose the **correct** answer from the options given below:

1. D, E, A, B, C
2. B, C, D, E, A
3. A, B, C, D, E
4. C, B, A, E, D

Options :

485584133305. 1
485584133306. 2
485584133307. 3
485584133308. 4

Question Number : 212 Question Id : 48558433327 Question Type : MCQ Option Shuffling : No Is Question Mandatory : No Calculator : None Response Time : N.A Think Time : N.A Minimum Instruction Time : 0

Correct Marks : 5 Wrong Marks : 1

Question Key Details :

Key	Value
Comprehension	MCQ

निम्नलिखित राजवंशों को उसकी स्थापना के कालक्रमानुसार व्यवस्थित करें:-

- A. अहमदाबाद, बीजापुर और बेरार की सल्तनतों का उदय।
- B. बाहमनी राजवंश की स्थापना।
- C. विजयनगर साम्राज्य की स्थापना।
- D. गोलकुंडा सल्तनत की स्थापना।
- E. पुर्तगालियों द्वारा गोवा पर विजय।

नीचे दिए गए विकल्पों में से सही उत्तर का चयन करें:

- 1. D, E, A, B, C
- 2. B, C, D, E, A
- 3. A, B, C, D, E
- 4. C, B, A, E, D

Options :

- 485584133305. 1
- 485584133306. 2
- 485584133307. 3
- 485584133308. 4

Question Number : 213 Question Id : 48558433328 Question Type : MCQ Option Shuffling : No Is Question Mandatory : No Calculator : None Response Time : N.A Think Time : N.A Minimum Instruction Time : 0

Correct Marks : 5 Wrong Marks : 1

Question Key Details :

Key	Value
Comprehension	MCQ

From the statements given below, choose the **correct** ones about the fortifications and roads in Vijayanagara Empire.

- A. Paes, an ambassador from Persia, mentioned seven lines of forts.
- B. Razzaq said that cementing was used in the walls of the fort.
- C. There was no fortification around the agricultural fields.
- D. The fort was entered through well-guarded gates linking the city to the major road.
- E. The arch on the gateway led to the fortified settlement.

Choose the **correct** answer from the options given below:

- 1. E, A only
- 2. D, E only
- 3. C, D only
- 4. B, A only

Options :

- 485584133309. 1
- 485584133310. 2
- 485584133311. 3

Question Number : 213 Question Id : 48558433328 Question Type : MCQ Option Shuffling : No Is Question Mandatory : No Calculator : None Response Time : N.A Think Time : N.A Minimum Instruction Time : 0

Correct Marks : 5 Wrong Marks : 1

Question Key Details :

Key	Value
Comprehension	MCQ

निम्नलिखित कथनों में से विजयनगर साम्राज्य के दुर्ग और सडकों के संबंध में सही कथनों का चुनाव करें:-

- पर्शिया से आए राजदूत, पेस ने दुर्गों की सात पंक्तियों का उल्लेख किया है।
- रज्जाक ने कहा है कि किले की दीवारों को जोड़ने के लिए गोर का प्रयोग किया गया था।
- खेतों को किलेबंदी से नहीं घेरा गया था।
- दुर्ग में प्रवेश के लिए अच्छी तरह सुरक्षित प्रवेशद्वार थे, जो शहर को मुख्य सड़को से जोडते थे।
- प्रवेश द्वार पर बनी मेहराब, किलेबंद में घिरी बस्ती कि और पहुँचाते थे।

नीचे दिए गए विकल्पों में से सही उत्तर का चयन करें:

- केवल E, A
- केवल D, E
- केवल C, D
- केवल B, A

Options :

485584133309. 1
485584133310. 2
485584133311. 3
485584133312. 4

Question Number : 214 Question Id : 48558433329 Question Type : MCQ Option Shuffling : No Is Question Mandatory : No Calculator : None Response Time : N.A Think Time : N.A Minimum Instruction Time : 0

Correct Marks : 5 Wrong Marks : 1

Question Key Details :

Key	Value
Comprehension	MCQ

Match List I with List II:-

LIST I (Foreign Traveler)		LIST II (Country)	
A.	Nicolo de Conti	I.	Russia
B.	Domingo Paes	II.	Persia
C.	Nikitin	III.	Italy
D.	Abdur Razzaq	IV.	Portugal

Choose the **correct** answer from the options given below:

1. A-III, B-IV, C-I, D-II
2. A-I, B-II, C-III, D-IV
3. A-IV, B-I, C-III, D-II
4. A-II, B-III, C-I, D-IV

Options :

485584133313. 1
485584133314. 2
485584133315. 3
485584133316. 4

Question Number : 214 Question Id : 48558433329 Question Type : MCQ Option Shuffling : No Is Question Mandatory : No Calculator : None Response Time : N.A Think Time : N.A Minimum Instruction Time : 0

Correct Marks : 5 Wrong Marks : 1

Question Key Details :

Key	Value
Comprehension	MCQ

सूची I का सूची II से मिलान कीजिए

सूची I		सूची II	
A.	निकोलो-दी-कोन्टी	I.	रूस
B.	डोमिनगो पेस	II.	फारस
C.	निकितिन	III.	ईटली
D.	अब्दुर रज़्जाक	IV.	पुर्तुगाल

निम्नलिखित विकल्पों में से सही उत्तर का चयन कीजिए :

1. A-III, B-IV, C-I, D-II
2. A-I, B-II, C-III, D-IV
3. A-IV, B-I, C-III, D-II
4. A-II, B-III, C-I, D-IV

Options :

485584133313. 1
485584133314. 2

485584133315. 3

485584133316. 4

Question Number : 215 Question Id : 48558433330 Question Type : MCQ Option Shuffling : No Is Question Mandatory : No Calculator : None Response Time : N.A Think Time : N.A Minimum Instruction Time : 0

Correct Marks : 5 Wrong Marks : 1

Question Key Details :

Key	Value
Comprehension	MCQ

Arrange these landmarks of the Mughal Empire in a chronological order.

- A. Reign of Akbar
- B. Reign of Humayun
- C. Reign of Shah Jahan
- D. Reign of Jahangir
- E. Reign of Aurangzeb

Choose the **correct** answer from the options given below:

- 1. A, B, C, D, E
- 2. B, A, D, C, E
- 3. E, D, B, C, A
- 4. B, C, A, D, E

Options :

485584133317. 1

485584133318. 2

485584133319. 3

485584133320. 4

Question Number : 215 Question Id : 48558433330 Question Type : MCQ Option Shuffling : No Is Question Mandatory : No Calculator : None Response Time : N.A Think Time : N.A Minimum Instruction Time : 0

Correct Marks : 5 Wrong Marks : 1

Question Key Details :

Key	Value
Comprehension	MCQ

निम्नलिखित मुगल साम्राज्य के सीमाकंनों को कालक्रमानुसार व्यवस्थित करें:-

- A. अकबर का शासन काल
- B. हुमाँयू का शासन काल
- C. शाहजहाँ का शासन काल
- D. जहाँगीर का शासन काल
- E. औरंगजेब का शासन काल

नीचे दिए गए विकल्पों में से सही उत्तर का चयन करें:

- 1. A, B, C, D, E
- 2. B, A, D, C, E
- 3. E, D, B, C, A
- 4. B, C, A, D, E

Options :

- 485584133317. 1
- 485584133318. 2
- 485584133319. 3
- 485584133320. 4

Question Number : 216 Question Id : 48558433331 Question Type : MCQ Option Shuffling : No Is Question Mandatory : No Calculator : None Response Time : N.A Think Time : N.A Minimum Instruction Time : 0

Correct Marks : 5 Wrong Marks : 1

Question Key Details :

Key	Value
Comprehension	MCQ

In a painting titled "Jahangir's dream", the Mughal Emperor Jahangir is portrayed as embracing:-

- 1. Shah of Iraq
- 2. Abbasid Caliph
- 3. Shah of Iran
- 4. Safavid Shah Abbas

Options :

- 485584133321. 1
- 485584133322. 2
- 485584133323. 3
- 485584133324. 4

Question Number : 216 Question Id : 48558433331 Question Type : MCQ Option Shuffling : No Is Question Mandatory : No Calculator : None Response Time : N.A Think Time : N.A Minimum Instruction Time : 0

Correct Marks : 5 Wrong Marks : 1

Question Key Details :

Key	Value
Comprehension	MCQ

'जहाँगीर का स्वपन' नामक लघुचित्र में, मुगल शासक जहाँगीर किससे गले मिलते हुए दिखाया गया है:

1. ईराक के शाह
2. अब्बासी खलीफा
3. ईरान के शाह
4. सफावीद शाह अब्बास

Options :

485584133321. 1
485584133322. 2
485584133323. 3
485584133324. 4

Question Number : 217 Question Id : 48558433332 Question Type : MCQ Option Shuffling : No Is Question Mandatory : No Calculator : None Response Time : N.A Think Time : N.A Minimum Instruction Time : 0

Correct Marks : 5 Wrong Marks : 1

Question Key Details :

Key	Value
Comprehension	MCQ

Akbar's quest for religious knowledge led to inter-faith debates in the Ibadat Khana at:-

1. Agra Fort
2. Red Fort of Shahjahanabad
3. Dargah of Nizamuddin Aulia
4. Fatehpur Sikri

Options :

485584133325. 1
485584133326. 2
485584133327. 3
485584133328. 4

Question Number : 217 Question Id : 48558433332 Question Type : MCQ Option Shuffling : No Is Question Mandatory : No Calculator : None Response Time : N.A Think Time : N.A Minimum Instruction Time : 0

Correct Marks : 5 Wrong Marks : 1

Question Key Details :

Key	Value
Comprehension	MCQ

अकबर की धार्मिक ज्ञान के प्रति उत्सुकता से इबादत खाने में आयोजित अंतर धार्मिक वाद-विवाद होते थे:

1. आगरा किला
2. शाहजहाँनाबाद का लाल किला
3. निजामुद्दीन औलिया की दरगाह
4. फतेहपुर सीकरी

Options :

485584133325. 1
485584133326. 2
485584133327. 3
485584133328. 4

Question Number : 218 Question Id : 48558433333 Question Type : MCQ Option Shuffling : No Is Question Mandatory : No Calculator : None Response Time : N.A Think Time : N.A Minimum Instruction Time : 0

Correct Marks : 5 Wrong Marks : 1

Question Key Details :

Key	Value
Comprehension	MCQ

Match List I with List II:-

LIST I		LIST II	
A.	Gulbadan Begum	I.	Alamgir Nama
B.	Abu'l Fzal	II.	Humayun Nama
C.	Muhammad Kazim	III.	Akbar Nama
D.	Abdul Hamid Lahori	IV.	Badshah Nama

Choose the **correct** answer from the options given below:

1. A-III, B-II, C-I, D-IV
2. A-I, B-II, C-IV, D-III
3. A-II, B-III, C-I, D-IV
4. A-IV, B-III, C-II, D-I

Options :

485584133329. 1
485584133330. 2
485584133331. 3
485584133332. 4

Question Number : 218 Question Id : 48558433333 Question Type : MCQ Option Shuffling : No Is Question Mandatory : No Calculator : None Response Time : N.A Think Time : N.A Minimum Instruction Time : 0

Correct Marks : 5 Wrong Marks : 1

Question Key Details :

Key	Value
Comprehension	MCQ

सूची I का सूची II से मिलान कीजिए

सूची I		सूची II	
A.	गुलबदन बेगम	I.	आल्मगीर नामा
B.	अबुल फज्जल	II.	हुमाँयू नामा
C.	मुहम्मद काज़िम	III.	अकबर नामा
D.	अब्दुल हामिद लाहौरी	IV.	बादशाहनामा

निम्नलिखित विकल्पों में से सही उत्तर का चयन कीजिए :

1. A-III, B-II, C-I, D-IV
2. A-I, B-II, C-IV, D-III
3. A-II, B-III, C-I, D-IV
4. A-IV, B-III, C-II, D-I

Options :

485584133329. 1
485584133330. 2
485584133331. 3
485584133332. 4

Question Number : 219 Question Id : 48558433334 Question Type : MCQ Option Shuffling : No Is Question Mandatory : No Calculator : None Response Time : N.A Think Time : N.A Minimum Instruction Time : 0

Correct Marks : 5 Wrong Marks : 1

Question Key Details :

Key	Value
Comprehension	MCQ

The areas under Ryotwari Settlements were surveyed after how many years?

1. 10 years
2. 20 years
3. 30 years
4. 40 years

Options :

485584133333. 1
485584133334. 2
485584133335. 3
485584133336. 4

Question Number : 219 Question Id : 48558433334 Question Type : MCQ Option Shuffling : No Is Question Mandatory : No Calculator : None Response Time : N.A Think Time : N.A Minimum Instruction Time : 0

Correct Marks : 5 Wrong Marks : 1

Question Key Details :

Key	Value
-----	-------

इस्तमरारी बंदोबस्त के अंतर्गत आने वाले क्षेत्र का सर्वेक्षण कितने वर्षों बाद किया जाता था?

1. 10 साल
2. 20 साल
3. 30 साल
4. 40 साल

Options :

485584133333. 1
485584133334. 2
485584133335. 3
485584133336. 4

Question Number : 220 Question Id : 48558433335 Question Type : MCQ Option Shuffling : No Is Question Mandatory : No Calculator : None Response Time : N.A Think Time : N.A Minimum Instruction Time : 0

Correct Marks : 5 Wrong Marks : 1

Question Key Details :

Key	Value
Comprehension	MCQ

Where was first British colonial rule established in India?

1. Madras Presidency
2. Bombay Presidency
3. Bengal Subah
4. Mysore State

Options :

485584133337. 1
485584133338. 2
485584133339. 3
485584133340. 4

Question Number : 220 Question Id : 48558433335 Question Type : MCQ Option Shuffling : No Is Question Mandatory : No Calculator : None Response Time : N.A Think Time : N.A Minimum Instruction Time : 0

Correct Marks : 5 Wrong Marks : 1

Question Key Details :

Key	Value
Comprehension	MCQ

भारत में पहला ब्रिटिश औपनिवेशिक शासन कहाँ स्थापित हुआ?

1. मद्रास प्रेसिडेंसी
2. बंबई प्रेसिडेंसी
3. बंगाल सुबा
4. मैसूर राज्य

Options :

485584133337. 1
485584133338. 2
485584133339. 3
485584133340. 4

Question Number : 221 Question Id : 48558433336 Question Type : MCQ Option Shuffling : No Is Question Mandatory : No Calculator : None Response Time : N.A Think Time : N.A Minimum Instruction Time : 0

Correct Marks : 5 Wrong Marks : 1

Question Key Details :

Key	Value
Comprehension	MCQ

The revenue system that was introduced in Bombay Deccan came to be known as:-

1. Permanent Settlement
2. Ryotwari Settlement
3. Mahalwari Settlement
4. Taluqudari Settlement

Options :

485584133341. 1
485584133342. 2
485584133343. 3
485584133344. 4

Question Number : 221 Question Id : 48558433336 Question Type : MCQ Option Shuffling : No Is Question Mandatory : No Calculator : None Response Time : N.A Think Time : N.A Minimum Instruction Time : 0

Correct Marks : 5 Wrong Marks : 1

Question Key Details :

Key	Value
Comprehension	MCQ

बंबई दक्कन में लागू की गई राजस्व प्रणाली को नाम से जाना गया:-

1. स्थाई बंदोबस्त
2. रैयतवाड़ी बंदोबस्त
3. महालवाड़ी बंदोबस्त
4. ताल्लुकदारी बंदोबस्त

Options :

485584133341. 1
485584133342. 2
485584133343. 3
485584133344. 4

Question Number : 222 Question Id : 48558433337 Question Type : MCQ Option Shuffling : No Is Question Mandatory : No Calculator : None Response Time : N.A Think Time : N.A Minimum Instruction Time : 0

Correct Marks : 5 Wrong Marks : 1

Question Key Details :

Key	Value
Comprehension	MCQ

Which of the following are **correct** about Deccan riots?

- A. The movement began at Supa, a village in Poona.
- B. Supa was an inaccessible forest area with no markets.
- C. On 12 May 1875, ryots attacked the shopkeepers.
- D. Ryots set fire to the houses of British and protected the houses of Sahukars and moneylenders.
- E. Account books were not destroyed by the ryots rather preserved by them.

Choose the **correct** answer from the options given below:

1. D and E only
2. A and B only
3. A and C only
4. B and D only

Options :

485584133345. 1
485584133346. 2
485584133347. 3
485584133348. 4

Question Number : 222 Question Id : 48558433337 Question Type : MCQ Option Shuffling : No Is Question Mandatory : No Calculator : None Response Time : N.A Think Time : N.A Minimum Instruction Time : 0

Correct Marks : 5 Wrong Marks : 1

Question Key Details :

Key	Value
Comprehension	MCQ

निम्नलिखित में से कौन सा दक्कन दंगों के संबंध में सही है?

- A. यह आंदोलन पूना जिले के सूपा गाँव से शुरू हुआ।
- B. सूपा घने जंगलों वाला बिना बाजारों का क्षेत्र था।
- C. 12 मई 1875, को रैयतों ने व्यापारियों पर हमला बोल दिया।
- D. रैयतों ने अग्रेजों के घरों में आग लगा दी और सादूकोरां और महाजनों के घरों की रक्षा की।
- E. रैयतों ने बहिखातों को जलाने के बजाय संरक्षित किया गया।

नीचे दिए गए विकल्पों में से सही उत्तर का चयन करें:

- 1. केवल D और E
- 2. केवल A और B
- 3. केवल A और C
- 4. केवल B और D

Options :

- 485584133345. 1
- 485584133346. 2
- 485584133347. 3
- 485584133348. 4

Question Number : 223 Question Id : 48558433338 Question Type : MCQ Option Shuffling : No Is Question Mandatory : No Calculator : None Response Time : N.A Think Time : N.A Minimum Instruction Time : 0

Correct Marks : 5 Wrong Marks : 1

Question Key Details :

Key	Value
Comprehension	MCQ

Match List I with List II

LIST I		LIST II	
A.	British takeover of Deccan	I.	1757
B.	The British become rulers of Bengal	II.	1911
C.	Plague spreads to major cities	III.	1818
D.	Transfer of capital from Calcutta to Delhi	IV.	1896

Choose the **correct** answer from the options given below:

- 1. A-IV, B-III, C-II, D-I
- 2. A-I, B-II, C-III, D-IV
- 3. A-II, B-IV, C-I, D-III
- 4. A-III, B-I, C-IV, D-III

Options :

- 485584133349. 1
- 485584133350. 2
- 485584133351. 3
- 485584133352. 4

Question Number : 223 Question Id : 48558433338 Question Type : MCQ Option Shuffling : No Is Question Mandatory : No Calculator : None Response Time : N.A Think Time : N.A Minimum Instruction Time : 0

Correct Marks : 5 Wrong Marks : 1

Question Key Details :

Key	Value
Comprehension	MCQ

सूची I का सूची II से मिलान कीजिए

सूची I		सूची II	
A.	दक्कन को अंग्रेजों ने काबू में लिया	I.	1757
B.	ब्रिटिश बंगाल के शासक बने	II.	1911
C.	बड़े शहरों में प्लेग फैल गया	III.	1818
D.	राजधानी का कलकत्ता से दिल्ली हस्तांतरण	IV.	1896

निम्नलिखित विकल्पों में से सही उत्तर का चयन कीजिए :

1. A-IV, B-III, C-II, D-I
2. A-I, B-II, C-III, D-IV
3. A-II, B-IV, C-I, D-III
4. A-III, B-I, C-IV, D-III

Options :

485584133349. 1
485584133350. 2
485584133351. 3
485584133352. 4

Question Number : 224 Question Id : 48558433339 Question Type : MCQ Option Shuffling : No Is Question Mandatory : No Calculator : None Response Time : N.A Think Time : N.A Minimum Instruction Time : 0

Correct Marks : 5 Wrong Marks : 1

Question Key Details :

Key	Value
Comprehension	MCQ

When was Awadh formally annexed by the British?

1. 1801
2. 1842
3. 1851
4. 1856

Options :

485584133353. 1
485584133354. 2
485584133355. 3

485584133356.4

Question Number : 224 Question Id : 48558433339 Question Type : MCQ Option Shuffling : No Is Question Mandatory : No Calculator : None Response Time : N.A Think Time : N.A Minimum Instruction Time : 0

Correct Marks : 5 Wrong Marks : 1

Question Key Details :

Key	Value
Comprehension	MCQ

अंग्रेजी द्वारा अवध को औपचारिक रूप से कब आधिग्रहित किया गया?

1. 1801
2. 1842
3. 1851
4. 1856

Options :

485584133353. 1
485584133354. 2
485584133355. 3
485584133356. 4

Question Number : 225 Question Id : 48558433340 Question Type : MCQ Option Shuffling : No Is Question Mandatory : No Calculator : None Response Time : N.A Think Time : N.A Minimum Instruction Time : 0

Correct Marks : 5 Wrong Marks : 1

Question Key Details :

Key	Value
Comprehension	MCQ

Who said, "A cherry that will drop into our mouth one day" in the context of Awadh?

1. Lord Dalhousie
2. Lord Wellesley
3. Lord Canning
4. Lord Curzon

Options :

485584133357. 1
485584133358. 2
485584133359. 3
485584133360. 4

Question Number : 225 Question Id : 48558433340 Question Type : MCQ Option Shuffling : No Is Question Mandatory : No Calculator : None Response Time : N.A Think Time : N.A Minimum Instruction Time : 0

Correct Marks : 5 Wrong Marks : 1

Question Key Details :

Key	Value
Comprehension	MCQ

अवध के संदर्भ में किसने कहा, "एक दिन यह चैरी फल हमारे ही मुँह में आकार गिरेगा" ?

1. लॉर्ड डलहौजी
2. लॉर्ड वैलेज़ली
3. लॉर्ड कैनिंग
4. लॉर्ड कार्ज़न

Options :

485584133357. 1
485584133358. 2
485584133359. 3
485584133360. 4

Question Number : 226 Question Id : 48558433341 Question Type : MCQ Option Shuffling : No Is Question Mandatory : No Calculator : None Response Time : N.A Think Time : N.A Minimum Instruction Time : 0

Correct Marks : 5 Wrong Marks : 1

Question Key Details :

Key	Value
Comprehension	MCQ

Find out the name of the painter who painted "In Memoriam" From the option given below:

1. Thomas Jones Barker
2. Joseph Noel Paton
3. Miss Wheeler
4. Henry Lawrence

Options :

485584133361. 1
485584133362. 2
485584133363. 3
485584133364. 4

Question Number : 226 Question Id : 48558433341 Question Type : MCQ Option Shuffling : No Is Question Mandatory : No Calculator : None Response Time : N.A Think Time : N.A Minimum Instruction Time : 0

Correct Marks : 5 Wrong Marks : 1

Question Key Details :

Key	Value
Comprehension	MCQ

नीचे दिए गए विकल्पों में से उस चित्रकार का नाम पहचानें जिसने "इन मेयोरियम" चित्रित किया?

1. थॉमस जॉन्स बार्कर
2. जोसेफ नोइल पेटॉन
3. मिस व्हीलर
4. हेनरी लॉरेंस

Options :

485584133361. 1
485584133362. 2
485584133363. 3
485584133364. 4

Question Number : 227 Question Id : 48558433342 Question Type : MCQ Option Shuffling : No Is Question Mandatory : No Calculator : None Response Time : N.A Think Time : N.A Minimum Instruction Time : 0

Correct Marks : 5 Wrong Marks : 1

Question Key Details :

Key	Value
Comprehension	MCQ

Under the leadership of which Governor General the custom of Sati was legally abolished?

1. Lord Curzon
2. Lord William Bentinck
3. Lord Dalhousie
4. Lord Wellesley

Options :

485584133365. 1
485584133366. 2
485584133367. 3
485584133368. 4

Question Number : 227 Question Id : 48558433342 Question Type : MCQ Option Shuffling : No Is Question Mandatory : No Calculator : None Response Time : N.A Think Time : N.A Minimum Instruction Time : 0

Correct Marks : 5 Wrong Marks : 1

Question Key Details :

Key	Value
Comprehension	MCQ

किस गवर्नर जनरल के नेतृत्व में सती प्रथा का कानूनी रूप से उन्मूलन किया गया?

1. लॉर्ड कर्जन
2. लॉर्ड विलियम बेंटिक
3. लॉर्ड डलहौजी
4. लॉर्ड वैलेज़ली

Options :

485584133365. 1
485584133366. 2
485584133367. 3
485584133368. 4

Question Number : 228 Question Id : 48558433343 Question Type : MCQ Option Shuffling : No Is Question Mandatory : No Calculator : None Response Time : N.A Think Time : N.A Minimum Instruction Time : 0

Correct Marks : 5 Wrong Marks : 1

Question Key Details :

Key	Value
Comprehension	MCQ

Arrange the following in chronological order according to their date of occurrence.

- A. Sepoy Mutiny in Meerut
- B. Summary settlement in Awadh
- C. Rising in Lucknow
- D. Rani of Jhansi killed in battle

Choose the **correct** answer from the options given below:

1. B, C, A, D
2. A, C, D, B
3. B, A, C, D
4. C, B, A, D

Options :

485584133369. 1
485584133370. 2
485584133371. 3
485584133372. 4

Question Number : 228 Question Id : 48558433343 Question Type : MCQ Option Shuffling : No Is Question Mandatory : No Calculator : None Response Time : N.A Think Time : N.A Minimum Instruction Time : 0

Correct Marks : 5 Wrong Marks : 1

Question Key Details :

Key	Value
Comprehension	MCQ

निम्नलिखित को उनके होने की तारीख के अनुरूप कालक्रमानुसार व्यवस्थित करें:-

- A. मेरठ में सिपाही विद्रोह
- B. अवध में एकमुश्त बंदोबस्त
- C. लखनऊ में विद्रोह
- D. युद्ध में झाँसी की रानी मारी गई

नीचे दिए गए विकल्पों में से सही उत्तर का चयन कीजिए:

- 1. B, C, A, D
- 2. A, C, D, B
- 3. B, A, C, D
- 4. C, B, A, D

Options :

- 485584133369. 1
- 485584133370. 2
- 485584133371. 3
- 485584133372. 4

Question Number : 229 Question Id : 48558433344 Question Type : MCQ Option Shuffling : No Is Question Mandatory : No Calculator : None Response Time : N.A Think Time : N.A Minimum Instruction Time : 0

Correct Marks : 5 Wrong Marks : 1

Question Key Details :

Key	Value
Comprehension	MCQ

Arrange the following European trading companies in the chronological order in context of their settlement in India.

- A. Dutch
- B. British
- C. French
- D. Portuguese

Choose the **correct** answer from the options given below:

- 1. A, B, C, D
- 2. D, A, C, B
- 3. D, A, B, C
- 4. C, A, B, D

Options :

- 485584133373. 1
- 485584133374. 2
- 485584133375. 3
- 485584133376. 4

Question Number : 229 Question Id : 48558433344 Question Type : MCQ Option Shuffling : No Is Question Mandatory : No Calculator : None Response Time : N.A Think Time : N.A Minimum Instruction Time : 0

Correct Marks : 5 Wrong Marks : 1

Question Key Details :

Key	Value
Comprehension	MCQ

निम्नलिखित यूरोपीय व्यापारिक कंपनियों को भारत में स्थापित होने के संदर्भ में कालक्रमानुसार व्यवस्थित करें:-

- A. डच
- B. ब्रिटिश
- C. फ्रेंच
- D. पुर्तगाल

नीचे दिए गए विकल्पों में से सही उत्तर का चयन कीजिए:

- 1. A, B, C, D
- 2. D, A, C, B
- 3. D, A, B, C
- 4. C, A, B, D

Options :

- 485584133373. 1
- 485584133374. 2
- 485584133375. 3
- 485584133376. 4

Question Number : 230 Question Id : 48558433345 Question Type : MCQ Option Shuffling : No Is Question Mandatory : No Calculator : None Response Time : N.A Think Time : N.A Minimum Instruction Time : 0

Correct Marks : 5 Wrong Marks : 1

Question Key Details :

Key	Value
Comprehension	MCQ

Which of the following statement is **incorrect**?

- 1. Lal, Bal and Pal were the leaders of Swadeshi Movement.
- 2. Extremist leaders are known for their moderate politics.
- 3. Moderates preferred gradual and persuasive approach.
- 4. Gopal Krishna Gokhale was a Moderate leader.

Options :

- 485584133377. 1
- 485584133378. 2
- 485584133379. 3
- 485584133380. 4

Question Number : 230 Question Id : 48558433345 Question Type : MCQ Option Shuffling : No Is Question Mandatory : No Calculator : None Response Time : N.A Think Time : N.A Minimum Instruction Time : 0

Correct Marks : 5 Wrong Marks : 1

Question Key Details :

Key	Value
Comprehension	MCQ

निम्नलिखित में से कौन सा कथन गलत है?

1. लाल, बाल और पाल स्वदेशी आंदोलन के नेता थे।
2. चरमपंथी नेता अपनी उदार नीतियों के लिए जाने जाते थे।
3. उदारवादी नेता, क्रमिक और उत्प्रेरक दृष्टिकोण को प्राथमिकता देते थे।
4. गोपालकृष्ण गोखले एक उदारवादी नेता था।

Options :

485584133377. 1
485584133378. 2
485584133379. 3
485584133380. 4

Question Number : 231 Question Id : 48558433346 Question Type : MCQ Option Shuffling : No Is Question Mandatory : No Calculator : None Response Time : N.A Think Time : N.A Minimum Instruction Time : 0

Correct Marks : 5 Wrong Marks : 1

Question Key Details :

Key	Value
Comprehension	MCQ

Through 'Salt March', Gandhi took the national movement to every household. This tactical wisdom was to bring larger participation of _____ in the freedom struggle.

1. Dalits
2. Menial workers
3. Peasants
4. Women

Options :

485584133381. 1
485584133382. 2
485584133383. 3
485584133384. 4

Question Number : 231 Question Id : 48558433346 Question Type : MCQ Option Shuffling : No Is Question Mandatory : No Calculator : None Response Time : N.A Think Time : N.A Minimum Instruction Time : 0

Correct Marks : 5 Wrong Marks : 1

Question Key Details :

Key	Value
Comprehension	MCQ

नमक यात्रा के द्वारा गाँधी जी ने राष्ट्रीय आंदोलन को प्रत्येक देशवासी से जोड़ दिया। यह बौद्धिक कदम बड़ी संख्या में स्वतंत्रता आंदोलन में _____ की भागीदारी बढ़ाने के लिए था।

1. दलित
2. भृत्यगण कामगार
3. किसान
4. मिहिला

Options :

485584133381. 1
485584133382. 2
485584133383. 3
485584133384. 4

Question Number : 232 Question Id : 48558433347 Question Type : MCQ Option Shuffling : No Is Question Mandatory : No Calculator : None Response Time : N.A Think Time : N.A Minimum Instruction Time : 0

Correct Marks : 5 Wrong Marks : 1

Question Key Details :

Key	Value
Comprehension	MCQ

In which year did Gandhi left British India for South Africa as a lawyer?

1. 1881
2. 1893
3. 1894
4. 1915

Options :

485584133385. 1
485584133386. 2
485584133387. 3
485584133388. 4

Question Number : 232 Question Id : 48558433347 Question Type : MCQ Option Shuffling : No Is Question Mandatory : No Calculator : None Response Time : N.A Think Time : N.A Minimum Instruction Time : 0

Correct Marks : 5 Wrong Marks : 1

Question Key Details :

Key	Value
Comprehension	MCQ

किस वर्ष वकील के रूप में गाँधी ब्रिटिश भारत को छोड़ दक्षिण अफ्रिका गए।

1. 1881
2. 1893
3. 1894
4. 1915

Options :

485584133385. 1
485584133386. 2
485584133387. 3
485584133388. 4

Question Number : 233 Question Id : 48558433348 Question Type : MCQ Option Shuffling : No Is Question Mandatory : No Calculator : None Response Time : N.A Think Time : N.A Minimum Instruction Time : 0

Correct Marks : 5 Wrong Marks : 1

Question Key Details :

Key	Value
Comprehension	MCQ

Due to which event the British instituted 'censorship of the press' and detention without trial. It was later known as the Rowlatt Act?

1. The Great Depression
2. World War I
3. World War II
4. Balkan Wars

Options :

485584133389. 1
485584133390. 2
485584133391. 3
485584133392. 4

Question Number : 233 Question Id : 48558433348 Question Type : MCQ Option Shuffling : No Is Question Mandatory : No Calculator : None Response Time : N.A Think Time : N.A Minimum Instruction Time : 0

Correct Marks : 5 Wrong Marks : 1

Question Key Details :

Key	Value
Comprehension	MCQ

किस घटना के कारण अंग्रेजों ने प्रेस पर प्रतिबंध लगा दिया था और बिना जाँच के कारावास की अनुमति दे दी थी। बाद में यह 'रॉलेट एक्ट' के नाम से जाना गया?

1. आर्थिक महामंदी
2. प्रथम विश्व युद्ध
3. द्वितीय विश्व युद्ध
4. बाल्कन युद्ध

Options :

485584133389. 1
485584133390. 2
485584133391. 3
485584133392. 4

Question Number : 234 Question Id : 48558433349 Question Type : MCQ Option Shuffling : No Is Question Mandatory : No Calculator : None Response Time : N.A Think Time : N.A Minimum Instruction Time : 0

Correct Marks : 5 Wrong Marks : 1

Question Key Details :

Key	Value
Comprehension	MCQ

Match List I with List II

LIST I (Non-Cooperation Social Groups)		LIST II (Participation in Non-Cooperation)	
A.	The working class	I.	Refused to carry loads for colonial officers
B.	Hill tribes in northern Andhra	II.	Did not pay taxes
C.	Peasants in Kumaun	III.	Violated the forest laws
D.	Farmers in Awadh	IV.	Strike

Choose the **correct** answer from the options given below:

1. A-IV, B-III, C-I, D-II
2. A-I, B-III, C-II, D-IV
3. A-I, B-II, C-III, D-IV
4. A-IV, B-I, C-III, D-II

Options :

485584133393. 1
485584133394. 2
485584133395. 3
485584133396. 4

Question Number : 234 Question Id : 48558433349 Question Type : MCQ Option Shuffling : No Is Question Mandatory : No Calculator : None Response Time : N.A Think Time : N.A Minimum Instruction Time : 0

Correct Marks : 5 Wrong Marks : 1

Question Key Details :

Key	Value
Comprehension	MCQ

सूची I का सूची II से मिलान कीजिए

सूची I		सूची II	
असहयोजी सामाजिक समूह		असहयोग में प्रतिभागी	
A.	कामकाजी समूह	I.	औपनिवेशिक अफसरों को माल ढोने से इंकार कर दिया
B.	उत्तरी आंध्र प्रदेश में पहाड़ी जनजातियाँ	II.	कर भुगतान नहीं किया
C.	कुमाँयू के किसान	III.	जंगल कानूनों का उल्लंघन
D.	अवध के किसान	IV.	हड़ताल

निम्नलिखित विकल्पों में से सही उत्तर का चयन कीजिए :

1. A-IV, B-III, C-I, D-II
2. A-I, B-III, C-II, D-IV
3. A-I, B-II, C-III, D-IV
4. A-IV, B-I, C-III, D-II

Options :

485584133393. 1
485584133394. 2
485584133395. 3
485584133396. 4

Question Number : 235 Question Id : 48558433350 Question Type : MCQ Option Shuffling : No Is Question Mandatory : No Calculator : None Response Time : N.A Think Time : N.A Minimum Instruction Time : 0

Correct Marks : 5 Wrong Marks : 1

Question Key Details :

Key	Value
Comprehension	MCQ

Arrange the following in a chronological order.

- A. Resolution at Lahore, demanding a measure of autonomy for the Muslim-majority areas.
- B. Violence broke out between Hindus and Muslims in Calcutta.
- C. The name Pakistan is coined by a Punjabi Muslim student at Cambridge, Choudhary Rehmat Ali.
- D. The Muslim League declares "Direct Action" for winning Pakistan.
- E. Mohammad Iqbal speaks of the need for an autonomous North West Indian Muslim state.

Choose the **correct** answer from the options given below:

- 1. A, C, E, B, D
- 2. C, E, B, D, A
- 3. E, C, A, D, B
- 4. B, C, D, A, E

Options :

- 485584133397. 1
- 485584133398. 2
- 485584133399. 3
- 485584133400. 4

Question Number : 235 Question Id : 48558433350 Question Type : MCQ Option Shuffling : No Is Question Mandatory : No Calculator : None Response Time : N.A Think Time : N.A Minimum Instruction Time : 0

Correct Marks : 5 Wrong Marks : 1

Question Key Details :

Key	Value
Comprehension	MCQ

निम्नलिखित को कालक्रमानुसार व्यवस्थित करें:-

- A. मुस्लिम बहुल इलाकों के लिए कुछ हद तक स्वायत्ता की माँग करते हुए लाहौर प्रस्ताव पेश किया गया।
- B. कलकत्ता में हिंदू-मुसलमानों के बीच हिंसा फूट पड़ती है।
- C. कैम्ब्रिज में पढ़ने वाला एक पंजाबी मुस्लिमान युवक चौधरी रहमत अली ने पाकिस्तान नाम गढ़ा।
- D. मुस्लीम लीग द्वारा पाकिस्तान की स्थापना के लिए प्रत्यक्ष कार्यवाही की घोषणा।
- E. मुहम्मद इक्बाल ने उत्तर पश्चिमी भारतीय मुस्लिम राज्य की जरूरत पर बल दिया।

नीचे दिए गए विकल्पों में से सही उत्तर का चयन करें:-

- 1. A, C, E, B, D
- 2. C, E, B, D, A
- 3. E, C, A, D, B
- 4. B, C, D, A, E

Options :

- 485584133397. 1
- 485584133398. 2
- 485584133399. 3
- 485584133400. 4

Question Number : 236 Question Id : 48558433351 Question Type : MCQ Option Shuffling : No Is Question Mandatory : No Calculator : None Response Time : N.A Think Time : N.A Minimum Instruction Time : 0

Correct Marks : 5 Wrong Marks : 1

Question Key Details :

Key	Value
Comprehension	MCQ

"The British element is gone, but they have left the mischief behind" Who said this against the separate electorates?

1. Jawaharlal Nehru
2. Vallabhbhai Patel
3. B. Pocker Bahadur
4. R. V. Dhulekar

Options :

485584133401. 1
485584133402. 2
485584133403. 3
485584133404. 4

Question Number : 236 Question Id : 48558433351 Question Type : MCQ Option Shuffling : No Is Question Mandatory : No Calculator : None Response Time : N.A Think Time : N.A Minimum Instruction Time : 0

Correct Marks : 5 Wrong Marks : 1

Question Key Details :

Key	Value
Comprehension	MCQ

पृथक निर्वाचिका के विरोध में किसने कहा, "ब्रिटिश तत्व जा चुके हैं पर अपने पीछे वे शरारती तत्व छोड़ गए हैं"?

1. जवाहरलाल नेहरू
2. वल्लभभाई पटेल
3. बी. पोकर बहादुर
4. आर. वी. धुलेकर

Options :

485584133401. 1
485584133402. 2
485584133403. 3
485584133404. 4

Question Number : 237 Question Id : 48558433352 Question Type : MCQ Option Shuffling : No Is Question Mandatory : No Calculator : None Response Time : N.A Think Time : N.A Minimum Instruction Time : 0

Correct Marks : 5 Wrong Marks : 1

Question Key Details :

Key	Value
Comprehension	MCQ

Which of the following language was proposed by Mahatma Gandhi as the national language as it could be spoken by the common people?

1. Arabic
2. Sanskrit
3. Hindustani
4. Persian

Options :

485584133405. 1
485584133406. 2
485584133407. 3
485584133408. 4

Question Number : 237 Question Id : 48558433352 Question Type : MCQ Option Shuffling : No Is Question Mandatory : No Calculator : None Response Time : N.A Think Time : N.A Minimum Instruction Time : 0

Correct Marks : 5 Wrong Marks : 1

Question Key Details :

Key	Value
Comprehension	MCQ

निम्न में से किस भाषा को राष्ट्रीय भाषा बनाने के लिए महात्मा गाँधी बल दिया क्योंकि ये आम लोगों द्वारा बोली जाती थी?

1. अरबी
2. संस्कृत
3. हिंदुस्तानी
4. फ़ारसी

Options :

485584133405. 1
485584133406. 2
485584133407. 3
485584133408. 4

Question Number : 238 Question Id : 48558433353 Question Type : MCQ Option Shuffling : No Is Question Mandatory : No Calculator : None Response Time : N.A Think Time : N.A Minimum Instruction Time : 0

Correct Marks : 5 Wrong Marks : 1

Question Key Details :

Key	Value
Comprehension	MCQ

Which articles provide the Fundamental Rights of "Cultural and Education Rights"

1. Articles 25-26
2. Articles 27-28
3. Articles 29-30
4. Articles 14-16

Options :

485584133409. 1
485584133410. 2
485584133411. 3
485584133412. 4

Question Number : 238 Question Id : 48558433353 Question Type : MCQ Option Shuffling : No Is Question Mandatory : No Calculator : None Response Time : N.A Think Time : N.A Minimum Instruction Time : 0

Correct Marks : 5 Wrong Marks : 1

Question Key Details :

Key	Value
Comprehension	MCQ

किस अनुच्छेद अंतर्गत भारतीयों को सांस्कृतिक और शैक्षिक मूलभूत अधिकार मिलता है।

1. अनुच्छेद 25-26
2. अनुच्छेद 27-28
3. अनुच्छेद 29-30
4. अनुच्छेद 14-16

Options :

485584133409. 1
485584133410. 2
485584133411. 3
485584133412. 4

Question Number : 239 Question Id : 48558433354 Question Type : MCQ Option Shuffling : No Is Question Mandatory : No Calculator : None Response Time : N.A Think Time : N.A Minimum Instruction Time : 0

Correct Marks : 5 Wrong Marks : 1

Question Key Details :

Key	Value
Comprehension	MCQ

Who said that separate electorate is a "Poison that has entered the body politics of our country"?

1. S. N. Mukherjee
2. Vallabhbhai Patel
3. Rajendra Prasad
4. Jawaharlal Nehru

Options :

485584133413. 1
485584133414. 2
485584133415. 3
485584133416. 4

Question Number : 239 Question Id : 48558433354 Question Type : MCQ Option Shuffling : No Is Question Mandatory : No Calculator : None Response Time : N.A Think Time : N.A Minimum Instruction Time : 0

Correct Marks : 5 Wrong Marks : 1

Question Key Details :

Key	Value
Comprehension	MCQ

पृथक निर्वाचिका के संबंध में किसने कहा कि, "यह एक ऐसा विष है जो हमारे देश की पूरी राजनीति में समा चुना है।"

1. एस. एन. मुखर्जी
2. वल्लभभाई पटेल
3. राजेन्द्र प्रसाद
4. जवाहर लाल नेहरू

Options :

485584133413. 1
485584133414. 2
485584133415. 3
485584133416. 4

Question Number : 240 Question Id : 48558433355 Question Type : MCQ Option Shuffling : No Is Question Mandatory : No Calculator : None Response Time : N.A Think Time : N.A Minimum Instruction Time : 0

Correct Marks : 5 Wrong Marks : 1

Question Key Details :

Key	Value
Comprehension	MCQ

Arrange the following in a chronological order.

- A. Labour Government comes to Power in Britain.
- B. Cabinet Mission's Announcement.
- C. Muslim League announces Direct Action Day.
- D. General Election of India.

Choose the **correct** answer from the options given below:

- 1. A, B, C, D
- 2. A, D, B, C
- 3. C, A, B, D
- 4. B, A, C, D

Options :

- 485584133417. 1
- 485584133418. 2
- 485584133419. 3
- 485584133420. 4

Question Number : 240 Question Id : 48558433355 Question Type : MCQ Option Shuffling : No Is Question Mandatory : No Calculator : None Response Time : N.A Think Time : N.A Minimum Instruction Time : 0

Correct Marks : 5 Wrong Marks : 1

Question Key Details :

Key	Value
Comprehension	MCQ

निम्नलिखित को कालक्रमानुसार व्यवस्थित करें:-

- A. ब्रिटेन में लेबर सरकार का स्ता में आना।
- B. कैबिनेट मिशन की घोषणा।
- C. मुस्लिम लीग द्वारा प्रत्यक्ष कार्यवाही दिवस की घोषणा।
- D. भारत में आम चुनाव

नीचे दिए विकल्पों में से सही उत्तर का चयन करें:-

- 1. A, B, C, D
- 2. A, D, B, C
- 3. C, A, B, D
- 4. B, A, C, D

Options :

- 485584133417. 1
- 485584133418. 2
- 485584133419. 3
- 485584133420. 4

Sub-Section Number :

2

Sub-Section Id :

4855842429

Question Shuffling Allowed :

No

Is Section Default? :

null

Question Number : 241 Question Id : 48558433356 Question Type : MCQ Option Shuffling : No Is Question Mandatory : No Calculator : None Response Time : N.A Think Time : N.A Minimum Instruction Time : 0

Correct Marks : 5 Wrong Marks : 1

Question Key Details :

Key	Value
Comprehension	Comp1

Read the passage and answer the questions:

Mesopotamian texts datable to the third millennium BCE refer to copper coming from a region called Magan. Interestingly enough copper found at Mesopotamian sites also contains traces of nickel. Other archaeological finds suggestive of long-distance contacts include Harappan seals, weights, dice and beads. Mesopotamian texts mention contact with regions named Dilmun, Magan and Meluhha. They mention the products from Meluhha: Carnelian, lapis lazuli, copper, gold, and varieties of wood. A Mesopotamian myth says of Meluhha: "May your bird be the haja-bird, may its call be heard in the royal palace."

"Meluhha" in the Mesopotamian texts refers to:-

1. Oman
2. Bahrain
3. Iran
4. Harappa

Options :

485584133421. 1

485584133422. 2

485584133423. 3

485584133424. 4

Question Number : 241 Question Id : 48558433356 Question Type : MCQ Option Shuffling : No Is Question Mandatory : No Calculator : None Response Time : N.A Think Time : N.A Minimum Instruction Time : 0

Correct Marks : 5 Wrong Marks : 1

Question Key Details :

Key	Value
Comprehension	Comp1

तीसरी सहस्राब्दि ईसा पूर्व में दिनांकित मेसोपोटामिया के लेखों में मगान जो संभवतः ओमान के लिए प्रयुक्त नाम था, नामक क्षेत्र से ताँबे के आगमन के संदर्भ मिलते हैं। यहाँ रोजक बात यह है कि मेसोपोटामिया के स्तलों से मिले ताँबे में भी निकल के अंश मिले हैं। लंबी दूरी के संपर्कों की ओर संकेत करने वाली अन्य पुरातात्विक खोजों में हड़प्पाई मुहरें, बाट, पासे तथा मनके शामिल हैं। मेसोपोटामिया के लेखों से दिलमुन, मगान तथा मेलुहा से संपर्क की जानकारी मिलती है। मेलुहा से प्राप्त उत्पादों हैं: कार्नीलियन, लाजवर्द मणि, ताँबा, सोना तथा विविध प्रकार की लकड़ियाँ। मेलुहा के विषय में एक मेसोपोटामियाई मिथक यह बताता है: "तुम्हारा पक्षी हाजा पक्षी हो, उसकी आवाज़ राजमहल में सुनाई दे"

"मेलुहा" मेसोपोटामिया के लेखों में किसके लिए प्रयुक्त हुआ है?

1. ओमान
2. बहरीन
3. ईरान
4. हड़प्पा

Options :

485584133421. 1
485584133422. 2
485584133423. 3
485584133424. 4

Question Number : 242 Question Id : 48558433357 Question Type : MCQ Option Shuffling : No Is Question Mandatory : No Calculator : None Response Time : N.A Think Time : N.A Minimum Instruction Time : 0

Correct Marks : 5 Wrong Marks : 1

Question Key Details :

Key	Value
Comprehension	Compl

Read the passage and answer the questions:

Mesopotamian texts datable to the third millennium BCE refer to copper coming from a region called Magan. Interestingly enough copper found at Mesopotamian sites also contains traces of nickel. Other archaeological finds suggestive of long-distance contacts include Harappan seals, weights, dice and beads. Mesopotamian texts mention contact with regions named Dilmun, Magan and Meluhha. They mention the products from Meluhha: Carnelian, lapis lazuli, copper, gold, and varieties of wood. A Mesopotamian myth says of Meluhha: "May your bird be the haja-bird, may its call be heard in the royal palace."

According to some archaeologists, the haja-bird mentioned in the Mesopotamian texts was:-

1. Peacock
2. Eagle
3. Koel
4. Sparrow

Options :

485584133425. 1
485584133426. 2
485584133427. 3
485584133428. 4

Question Number : 242 Question Id : 48558433357 Question Type : MCQ Option Shuffling : No Is Question Mandatory : No Calculator : None Response Time : N.A Think Time : N.A Minimum Instruction Time : 0

Correct Marks : 5 Wrong Marks : 1

Question Key Details :

Key	Value
Comprehension	Comp1

तीसरी सहस्राब्दि ईसा पूर्व में दिनांकित मेसोपोटामिया के लेखों में मगान जो संभवतः ओमान के लिए प्रयुक्त नाम था, नामक क्षेत्र से ताँबे के आगमन के संदर्भ मिलते हैं। यहाँ रोजक बात यह है कि मेसोपोटामिया के स्तलों से मिले ताँबे में भी निकल के अंश मिले हैं। लंबी दूरी के संपर्कों की ओर संकेत करने वाली अन्य पुरातात्विक खोजों में हड़प्पाई मुहरें, बाट, पासे तथा मनके शामिल हैं। मेसोपोटामिया के लेखों से दिलमुन, मगान तथा मेलुहा से संपर्क की जानकारी मिलती है। मेलुहा से प्राप्त उत्पादों हैं: कार्नीलियन, लाजवर्द मणि, ताँबा, सोना तथा विविध प्रकार की लकड़ियाँ। मेलुहा के विषय में एक मेसोपोटामियाई मिथक यह बताता है: "तुम्हारा पक्षी हाजा पक्षी हो, उसकी आवाज़ राजमहल में सुनाई दे"

कुछ पुरातत्वविदों के अनुसार मसोपाटामियान लेखों में उद्धृत हाजा पक्षी था:

1. मोर
2. बाज
3. कोयल
4. चिड़िया

Options :

485584133425. 1
 485584133426. 2
 485584133427. 3
 485584133428. 4

Question Number : 243 Question Id : 48558433358 Question Type : MCQ Option Shuffling : No Is Question Mandatory : No Calculator : None Response Time : N.A Think Time : N.A Minimum Instruction Time : 0

Correct Marks : 5 Wrong Marks : 1

Question Key Details :

Key	Value
Comprehension	Comp1

Read the passage and answer the questions:

Mesopotamian texts datable to the third millennium BCE refer to copper coming from a region called Magan. Interestingly enough copper found at Mesopotamian sites also contains traces of nickel. Other archaeological finds suggestive of long-distance contacts include Harappan seals, weights, dice and beads. Mesopotamian texts mention contact with regions named Dilmun, Magan and Meluhha. They mention the products from Meluhha: Carnelian, lapis lazuli, copper, gold, and varieties of wood. A Mesopotamian myth says of Meluhha: "May your bird be the haja-bird, may its call be heard in the royal palace."

What was the Harappan seal made of?

1. Chert
2. Carnelion
3. Steatite
4. Lapis Lazuli

Options :

485584133429. 1
485584133430. 2
485584133431. 3
485584133432. 4

Question Number : 243 Question Id : 48558433358 Question Type : MCQ Option Shuffling : No Is Question Mandatory : No Calculator : None Response Time : N.A Think Time : N.A Minimum Instruction Time : 0

Correct Marks : 5 Wrong Marks : 1

Question Key Details :

Key	Value
Comprehension	Comp1

तीसरी सहस्त्राब्दि ईसा पूर्व में दिनांकित मेसोपोटामिया के लेखों में मगान जो संभलतः ओमान के लिए प्रयुक्त नाम था, नामक क्षेत्र से ताँबे के आगमन के संदर्भ मिलते हैं। यहाँ रोजक बात यह है कि मेसोपोटामिया के स्तलों से मिले ताँबे में भी निकल के अंश मिले हैं। लंबी दूरी के संपर्कों की ओर संकेत करने वाली अन्य पुरातात्विक खोजों में हड़प्पाई मुहरें, बाट, पासे तथा मनके शामिल हैं। मेसोपोटामिया के लेखों से दिलमुन, मगान तथा मेलुहा से संपर्क की जानकारी मिलती है। मेलुहा से प्राप्त उत्पादों हैं: कार्नीलियन, लाजवर्द मणि, ताँबा, सोना तथा विविध प्रकार की लकड़ियाँ। मेलुहा के विषय में एक मेसोपोटामियाई मिथक यह बताता है: "तुम्हारा पक्षी हाजा पक्षी हो, उसकी आवाज़ राजमहल में सुनाई दे"

हड़प्पा मुहरें किससे बन हुई थी?

1. चर्ट
2. कार्नीलियन
3. सेलखड़ी
4. लाजवर्द मणि

Options :

485584133429. 1
485584133430. 2
485584133431. 3
485584133432. 4

Question Number : 244 Question Id : 48558433359 Question Type : MCQ Option Shuffling : No Is Question Mandatory : No Calculator : None Response Time : N.A Think Time : N.A Minimum Instruction Time : 0

Correct Marks : 5 Wrong Marks : 1

Question Key Details :

Key	Value
-----	-------

Read the passage and answer the questions:

Mesopotamian texts datable to the third millennium BCE refer to copper coming from a region called Magan. Interestingly enough copper found at Mesopotamian sites also contains traces of nickel. Other archaeological finds suggestive of long-distance contacts include Harappan seals, weights, dice and beads. Mesopotamian texts mention contact with regions named Dilmun, Magan and Meluhha. They mention the products from Meluhha: Carnelian, lapis lazuli, copper, gold, and varieties of wood. A Mesopotamian myth says of Meluhha: "May your bird be the aja-bird, may its call be heard in the royal palace."

Specialised drills have been found at which of the following Harappan sites?

- A. Nageshwar
- B. Dholavira
- C. Lothal
- D. Balakot
- E. Chanhudaro

Choose the **correct** answer from the options given below:

- 1. C, D, E only
- 2. B, C, E only
- 3. A, B, D only
- 4. A, B, C only

Options :

- 485584133433. 1
- 485584133434. 2
- 485584133435. 3
- 485584133436. 4

Question Number : 244 Question Id : 48558433359 Question Type : MCQ Option Shuffling : No Is Question Mandatory : No Calculator : None Response Time : N.A Think Time : N.A Minimum Instruction Time : 0

Correct Marks : 5 Wrong Marks : 1

Question Key Details :

Key	Value
Comprehension	Comp1

तीसरी सहस्राब्दि ईसा पूर्व में दिनांकित मेसोपोटामिया के लेखों में मगान जो संभलतः ओमान के लिए प्रयुक्त नाम था, नामक क्षेत्र से ताँबे के आगमन के संदर्भ मिलते हैं। यहाँ रोजक बात यह है कि मेसोपोटामिया के स्तलों से मिले ताँबे में भी निकल के अंश मिले हैं। लंबी दूरी के संपर्कों की ओर संकेत करने वाली अन्य पुरातात्विक खोजों में हड़प्पाई मुहरें, बाट, पासे तथा मनके शामिल हैं। मेसोपोटामिया के लेखों से दिलमुन, मगान तथा मेलुहा से संपर्क की जानकारी मिलती है। मेलुहा से प्राप्त उत्पादों हैं: कार्नीलियन, लाजवर्द मणि, ताँबा, सोना तथा विविध प्रकार की लकड़ियाँ। मेलुहा के विषय में एक मेसोपोटामियाई मिथक यह बताता है: "तुम्हारा पक्षी हाजा पक्षी हो, उसकी आवाज़ राजमहल में सुनाई दे"

किस हड़प्पा स्थल से छेद करने के विशेष उपकरण मिले हैं?

- A. नागेश्वर
- B. धौलावीरा
- C. लोथल
- D. बालाकोट
- E. चन्हदड़ी

नीचे दिए गए विकल्पों में से सही उत्तर का चयन करें:

1. केवल C, D, E
2. केवल B, C, E
3. केवल A, B, D
4. केवल A, B, C

Options :

- 485584133433. 1
- 485584133434. 2
- 485584133435. 3
- 485584133436. 4

Question Number : 245 Question Id : 48558433360 Question Type : MCQ Option Shuffling : No Is Question Mandatory : No Calculator : None Response Time : N.A Think Time : N.A Minimum Instruction Time : 0

Correct Marks : 5 Wrong Marks : 1

Question Key Details :

Key	Value
Comprehension	Comp1

Read the passage and answer the questions:

Mesopotamian texts datable to the third millennium BCE refer to copper coming from a region called Magan. Interestingly enough copper found at Mesopotamian sites also contains traces of nickel. Other archaeological finds suggestive of long-distance contacts include Harappan seals, weights, dice and beads. Mesopotamian texts mention contact with regions named Dilmun, Magan and Meluhha. They mention the products from Meluhha: Carnelian, lapis lazuli, copper, gold, and varieties of wood. A Mesopotamian myth says of Meluhha: "May your bird be the haja-bird, may its call be heard in the royal palace."

Match List I with List II:-

LIST I		LIST II	
A.	Nageshwar	I.	Lapis Lazuli
B.	Shortughai	II.	Copper
C.	Lothal	III.	Shells
D.	Khetri	IV.	Carnelian

Choose the **correct** answer from the options given below:

1. A-IV, B-II, C-III, D-I
2. A-II, B-IV, C-I, D-III
3. A-III, B-I, C-IV, D-II
4. A-I, B-III, C-II, D-IV

Options :

485584133437. 1
485584133438. 2
485584133439. 3
485584133440. 4

Question Number : 245 Question Id : 48558433360 Question Type : MCQ Option Shuffling : No Is Question Mandatory : No Calculator : None Response Time : N.A Think Time : N.A Minimum Instruction Time : 0

Correct Marks : 5 Wrong Marks : 1

Question Key Details :

Key	Value
Comprehension	Compl

तीसरी सहस्राब्दि ईसा पूर्व में दिनांकित मेसोपोटामिया के लेखों में मगान जो संभलतः ओमान के लिए प्रयुक्त नाम था, नामक क्षेत्र से ताँबे के आगमन के संदर्भ मिलते हैं। यहाँ रोजक बात यह है कि मेसोपोटामिया के स्तलों से मिले ताँबे में भी निकल के अंश मिले हैं। लंबी दूरी के संपर्कों की ओर संकेत करने वाली अन्य पुरातात्विक खोजों में हड़प्पाई मुहरें, बाट, पासे तथा मनके शामिल हैं। मेसोपोटामिया के लेखों से दिलमुन, मगान तथा मेलुहा से संपर्क की जानकारी मिलती है। मेलुहा से प्राप्त उत्पादों हैं: कानीलियन, लाजवर्द मणि, ताँबा, सोना तथा विविध प्रकार की लकड़ियाँ। मेलुहा के विषय में एक मेसोपोटामियाई मिथक यह बताता है: "तुम्हारा पक्षी हाजा पक्षी हो, उसकी आवाज़ राजमहल में सुनाई दे"

सूची I का सूची II से मिलान कीजिए

सूची I		सूची II	
A.	नागेश्वर	I.	लाजवर्द मणि
B.	शोर्तुघई	II.	ताँबा
C.	लोथल	III.	शंख
D.	खेत्री	IV.	कार्नीलियन

निम्नलिखित विकल्पों में से सही उत्तर का चयन कीजिए :

1. A-IV, B-II, C-III, D-I
2. A-II, B-IV, C-I, D-III
3. A-III, B-I, C-IV, D-II
4. A-I, B-III, C-II, D-IV

Options :

485584133437. 1
485584133438. 2
485584133439. 3
485584133440. 4

Sub-Section Number :

3

Sub-Section Id :

4855842430

Question Shuffling Allowed :

No

Is Section Default? :

null

Question Number : 246 Question Id : 48558433361 Question Type : MCQ Option Shuffling : No Is Question Mandatory : No Calculator : None Response Time : N.A Think Time : N.A Minimum Instruction Time : 0

Correct Marks : 5 Wrong Marks : 1

Question Key Details :

Key	Value
Comprehension	Comp2

Read the passage and answer following five questions:

Here are verses from the Rigveda invoking Agni, the god of fire, often identified with the sacrificial fire, into which offerings were made so as to reach the other deities. "Bring, O strong one, this sacrifice of ours to the gods, O wise one, as a liberal giver. Bestow on us, O priest, abundant food. Agni, obtain, by sacrificing, mighty wealth for us". Verses such as these were composed in a special kind of Sanskrit, known as Vedic Sanskrit. They were taught orally to men belonging to priestly families.

The 'Rigveda' consists of _____ in praise of a variety of deities

1. Stories
2. Plays
3. Scripts
4. Hymns

Options :

485584133441. 1
485584133442. 2
485584133443. 3
485584133444. 4

Question Number : 246 Question Id : 48558433361 Question Type : MCQ Option Shuffling : No Is Question Mandatory : No Calculator : None Response Time : N.A Think Time : N.A Minimum Instruction Time : 0

Correct Marks : 5 Wrong Marks : 1

Question Key Details :

Key	Value
Comprehension	Comp2

यहाँ पर ऋग्वेद से लिए गए छंद हैं जिनमें अग्निदेव का आह्वान किया गया है: हे शक्तिशाली देव, आप हमारी आहुति देवताओं तक ले जाएँ। हे बुद्धिमंत, आप तो सबके दाता हैं। हे पुरोहित, हमें खूब सारे खाद्य पदार्थ दें। हे अग्नि यज्ञ के द्वारा हमारे लिए प्रचुर धन ला दें। उस तरह के छंद एक कास तरह की संस्कृत में रचे गए थे जिसे वैदिक संस्कृत कहा जाता था। ये स्त्रोत पुरोहित परिवारों के लोगों को मौखिक रूप में सिखाए जाते थे।

'ऋग्वेद' में विभिन्न प्रकार के _____ देवताओं की स्तुति में संकलित किये गए हैं

1. कहानी
2. नाटक
3. पटकथा
4. स्तोत्र

Options :

485584133441. 1
485584133442. 2
485584133443. 3
485584133444. 4

Question Number : 247 Question Id : 48558433362 Question Type : MCQ Option Shuffling : No Is Question Mandatory : No Calculator : None Response Time : N.A Think Time : N.A Minimum Instruction Time : 0

Correct Marks : 5 Wrong Marks : 1

Question Key Details :

Key	Value
Comprehension	Comp2

Read the passage and answer following five questions:

Here are verses from the Rigveda invoking Agni, the god of fire, often identified with the sacrificial fire, into which offerings were made so as to reach the other deities. "Bring, O strong one, this sacrifice of ours to the gods, O wise one, as a liberal giver. Bestow on us, O priest, abundant food. Agni, obtain, by sacrificing, mighty wealth for us". Verses such as these were composed in a special kind of Sanskrit, known as Vedic Sanskrit. They were taught orally to men belonging to priestly families.

Identify among the following another deity widely mentioned in the Rigveda.

1. Shiva
2. Indra
3. Vishnu
4. Krishna

Options :

485584133445. 1
485584133446. 2
485584133447. 3
485584133448. 4

Question Number : 247 Question Id : 48558433362 Question Type : MCQ Option Shuffling : No Is Question Mandatory : No Calculator : None Response Time : N.A Think Time : N.A Minimum Instruction Time : 0

Correct Marks : 5 Wrong Marks : 1

Question Key Details :

Key	Value
Comprehension	Comp2

यहाँ पर ऋग्वेद से लिए गए छंद हैं जिनमें अग्निदेव का आह्वान किया गया है: हे शक्तिशाली देव, आप हमारी आहुति देवताओं तक ले जाएँ। हे बुद्धिमंत, आप तो सबके दाता हैं। हे पुरोहित, हमें खूब सारे खाद्य पदार्थ दें। हे अग्नि यज्ञ के द्वारा हमारे लिए प्रचुर धन ला दें। उस तरह के छंद एक कास तरह की संस्कृत में रचे गए थे जिसे वैदिक संस्कृत कहा जाता था। ये स्तोत्र पुरोहित परिवारों के लोगों को मौखिक रूप में सिखाए जाते थे।

निम्नलिखित में से उस अन्य देवता की पहचान कीजिए जिनका प्रमुखता से वर्णन ऋग्वेद मिलता है?

1. शिव
2. इंद्र
3. विष्णु
4. कृष्ण

Options :

485584133445. 1
485584133446. 2

485584133447. 3

485584133448. 4

Question Number : 248 Question Id : 48558433363 Question Type : MCQ Option Shuffling : No Is Question Mandatory : No Calculator : None Response Time : N.A Think Time : N.A Minimum Instruction Time : 0

Correct Marks : 5 Wrong Marks : 1

Question Key Details :

Key	Value
Comprehension	Comp2

Read the passage and answer following five questions:

Here are verses from the Rigveda invoking Agni, the god of fire, often identified with the sacrificial fire, into which offerings were made so as to reach the other deities. "Bring, O strong one, this sacrifice of ours to the gods, O wise one, as a liberal giver. Bestow on us, O priest, abundant food. Agni, obtain, by sacrificing, mighty wealth for us". Verses such as these were composed in a special kind of Sanskrit, known as Vedic Sanskrit. They were taught orally to men belonging to priestly families.

Identify the timeline of Rigveda compilation.

1. C.1500 and 1000 BCE
2. C.1200 and 1000 BCE
3. C.1100 and 1200 BCE
4. C.1000 and 1500 BCE

Options :

485584133449. 1

485584133450. 2

485584133451. 3

485584133452. 4

Question Number : 248 Question Id : 48558433363 Question Type : MCQ Option Shuffling : No Is Question Mandatory : No Calculator : None Response Time : N.A Think Time : N.A Minimum Instruction Time : 0

Correct Marks : 5 Wrong Marks : 1

Question Key Details :

Key	Value
Comprehension	Comp2

यहाँ पर ऋग्वेद से लिए गए छंद हैं जिनमें अग्निदेव का आह्वान किया गया है: हे शक्तिशाली देव, आप हमारी आहुति देवताओं तक ले जाएँ। हे बुद्धिमंत, आप तो सबके दाता हैं। हे पुरोहित, हमें खूब सारे खाद्य पदार्थ दें। हे अग्नि यज्ञ के द्वारा हमारे लिए प्रचुर धन ला दें। उस तरह के छंद एक कास तरह की संस्कृत में रचे गए थे जिसे वैदिक संस्कृत कहा जाता था। ये स्त्रोत पुरोहित परिवारों के लोगों को मौखिक रूप में सिखाए जाते थे।

'ऋग्वेद' संकलन के समय को पहचानें:-

1. लगभग C.1500 से 1000 ई. पू.
2. लगभग 1200 से 1000 ई. पू.
3. लगभग 1100 से 1200 ई. पू.
4. लगभग 1000 से 1500 ई. पू.

Options :

485584133449. 1
485584133450. 2
485584133451. 3
485584133452. 4

Question Number : 249 Question Id : 48558433364 Question Type : MCQ Option Shuffling : No Is Question Mandatory : No Calculator : None Response Time : N.A Think Time : N.A Minimum Instruction Time : 0

Correct Marks : 5 Wrong Marks : 1

Question Key Details :

Key	Value
Comprehension	Comp2

Read the passage and answer following five questions:

Here are verses from the Rigveda invoking Agni, the god of fire, often identified with the sacrificial fire, into which offerings were made so as to reach the other deities. "Bring, O strong one, this sacrifice of ours to the gods, O wise one, as a liberal giver. Bestow on us, O priest, abundant food. Agni, obtain, by sacrificing, mighty wealth for us". Verses such as these were composed in a special kind of Sanskrit, known as Vedic Sanskrit. They were taught orally to men belonging to priestly families.

Which language was used to compose texts like Rigveda and Upanishads?

1. Hindavi
2. Pali
3. Sanskrit
4. Prakrit

Options :

485584133453. 1
485584133454. 2
485584133455. 3
485584133456. 4

Question Number : 249 Question Id : 48558433364 Question Type : MCQ Option Shuffling : No Is Question Mandatory : No Calculator : None Response Time : N.A Think Time : N.A Minimum Instruction Time : 0

Correct Marks : 5 Wrong Marks : 1

Question Key Details :

Key	Value
-----	-------

यहाँ पर ऋग्वेद से लिए गए छंद हैं जिनमें अग्निदेव का आह्वान किया गया है: हे शक्तिशाली देव, आप हमारी आहुति देवताओं तक ले जाएँ। हे बुद्धिमंत, आप तो सबके दाता हैं। हे पुरोहित, हमे खूब सारे खाद्य पदार्थ दें। हे अग्नि यज्ञ के द्वारा हमारे लिए प्रचुर धन ला दें। उस तरह के छंद एक कास तरह की संस्कृत में रचे गए थे जिसे वैदिक संस्कृत कहा जाता था। थे स्त्रोत पुरोहित परिवारों के लोगों को मौखिक रूप में सिखाए जाते थे।

ऋग्वेद और उपनिषदों की रचना के लिए किस भाषा का प्रयोग हुआ है?

1. हिंदवी
2. पाली
3. संस्कृत
4. प्राकृत

Options :

485584133453. 1

485584133454. 2

485584133455. 3

485584133456. 4

Question Number : 250 Question Id : 48558433365 Question Type : MCQ Option Shuffling : No Is Question Mandatory : No Calculator : None Response Time : N.A Think Time : N.A Minimum Instruction Time : 0

Correct Marks : 5 Wrong Marks : 1

Question Key Details :

Key	Value
Comprehension	Comp2

Read the passage and answer following five questions:

Here are verses from the Rigveda invoking Agni, the god of fire, often identified with the sacrificial fire, into which offerings were made so as to reach the other deities. "Bring, O strong one, this sacrifice of ours to the gods, O wise one, as a liberal giver. Bestow on us, O priest, abundant food. Agni, obtain, by sacrificing, mighty wealth for us". Verses such as these were composed in a special kind of Sanskrit, known as Vedic Sanskrit. They were taught orally to men belonging to priestly families.

Identify the 'sacrifices' mentioned in Rigveda.

- A. Samsara
- B. Rajasuya
- C. Kutagarashala
- D. Soma
- E. Ashvamedha

Choose the **correct** answer from the options given below:

1. A, B only
2. B, D only
3. B, E only
4. C, E only

Options :

- 485584133457. 1
- 485584133458. 2
- 485584133459. 3
- 485584133460. 4

Question Number : 250 Question Id : 48558433365 Question Type : MCQ Option Shuffling : No Is Question Mandatory : No Calculator : None Response Time : N.A Think Time : N.A Minimum Instruction Time : 0

Correct Marks : 5 Wrong Marks : 1

Question Key Details :

Key	Value
Comprehension	Comp2

यहाँ पर ऋग्वेद से लिए गए छंद हैं जिनमें अग्निदेव का आह्वान किया गया है: हे शक्तिशाली देव, आप हमारी आहुति देवताओं तक ले जाएँ। हे बुद्धिमंत, आप तो सबके दाता हैं। हे पुरोहित, हमें खूब सारे खाद्य पदार्थ दें। हे अग्नि यज्ञ के द्वारा हमारे लिए प्रचुर धन ला दें। उस तरह के छंद एक कास तरह की संस्कृत में रचे गए थे जिसे वैदिक संस्कृत कहा जाता था। ये स्त्रोत पुरोहित परिवारों के लोगों को मौखिक रूप में सिखाए जाते थे।

ऋग्वेद में वर्गित यज्ञ की पहचान कीजिए:-

- A. समसार
- B. राजसूय
- C. कुटुम्बशाला
- D. सोम
- E. अश्वमेध

नीचे दिए गए विकल्पों में सही उत्तर का चयन करें:

1. केवल A, B
2. केवल B, D
3. केवल B, E
4. केवल C, E

Options :

- 485584133457. 1
- 485584133458. 2
- 485584133459. 3
- 485584133460. 4

Legal Studies

Group Number :	9
Group Id :	485584747
Group Maximum Duration :	45
Group Minimum Duration :	45
Show Attended Group? :	No
Edit Attended Group? :	No
Break time :	0
Group Marks :	200
Is this Group for Examiner? :	No
Examiner permission :	Cant View
Show Progress Bar? :	No

Legal Studies

Section Id :	485584861
Section Number :	1
Section type :	Online
Mandatory or Optional :	Mandatory
Number of Questions :	50
Number of Questions to be attempted :	40
Section Marks :	200
Enable Mark as Answered Mark for Review and Clear Response :	Yes
Maximum Instruction Time :	0
Sub-Section Number :	1
Sub-Section Id :	4855842431

Question Shuffling Allowed :

Yes

Is Section Default? :

null

Question Number : 251 Question Id : 48558433836 Question Type : MCQ Option Shuffling : No Is Question Mandatory : No Calculator : None Response Time : N.A Think Time : N.A Minimum Instruction Time : 0

Correct Marks : 5 Wrong Marks : 1

Question Key Details :

Key	Value
Comprehension	MCQ

India's first Attorney General was

1. M.C. Setalvad
2. Justice P. Sathasivam
3. Justice V. Ramaswamy
4. Mukul Rohtagi

Options :

485584135341. 1
485584135342. 2
485584135343. 3
485584135344. 4

Question Number : 251 Question Id : 48558433836 Question Type : MCQ Option Shuffling : No Is Question Mandatory : No Calculator : None Response Time : N.A Think Time : N.A Minimum Instruction Time : 0

Correct Marks : 5 Wrong Marks : 1

Question Key Details :

Key	Value
Comprehension	MCQ

भारत के प्रथम महान्यायवादी थे?

1. एम. सी. सीतलवाड़
2. न्यायमूर्ति पी. सदाशिवम
3. न्यायमूर्ति वी. रामास्वामी
4. मुकुल रोहतगी

Options :

485584135341. 1
485584135342. 2
485584135343. 3
485584135344. 4

Question Number : 252 Question Id : 48558433837 Question Type : MCQ Option Shuffling : No Is Question Mandatory : No Calculator : None Response Time : N.A Think Time : N.A Minimum Instruction Time : 0

Correct Marks : 5 Wrong Marks : 1

Question Key Details :

Key	Value
-----	-------

Comprehension	MCQ
---------------	-----

What is enshrined in Article 217 of the Indian Constitution?

1. The procedure for appointment of judges of Supreme Court
2. The procedure for appointment of judges of High Court
3. The procedure for appointment of judges of lower Judiciary
4. The procedure of removal of Judges

Options :

485584135345. 1
485584135346. 2
485584135347. 3
485584135348. 4

Question Number : 252 Question Id : 48558433837 Question Type : MCQ Option Shuffling : No Is Question Mandatory : No Calculator : None Response Time : N.A Think Time : N.A Minimum Instruction Time : 0

Correct Marks : 5 Wrong Marks : 1

Question Key Details :

Key	Value
Comprehension	MCQ

भारतीय संविधान के अनुच्छेद 217 में क्या उल्लिखित है?

1. उच्चतम न्यायालय में न्यायाधीशों की नियुक्ति की प्रक्रिया
2. उच्च न्यायालय में न्यायाधीशों की नियुक्ति की प्रक्रिया
3. निचली न्यायपालिका में न्यायाधीशों की नियुक्ति की प्रक्रिया
4. न्यायाधीशों को हटाने की प्रक्रिया

Options :

485584135345. 1
485584135346. 2
485584135347. 3
485584135348. 4

Question Number : 253 Question Id : 48558433838 Question Type : MCQ Option Shuffling : No Is Question Mandatory : No Calculator : None Response Time : N.A Think Time : N.A Minimum Instruction Time : 0

Correct Marks : 5 Wrong Marks : 1

Question Key Details :

Key	Value
Comprehension	MCQ

The doctrine of *Locus Standi* means

1. Right to respect the court
2. Right to appear before the court
3. Right to stand with the court
4. Right to seek Justice

Options :

485584135349. 1
485584135350. 2
485584135351. 3
485584135352. 4

Question Number : 253 Question Id : 48558433838 Question Type : MCQ Option Shuffling : No Is Question Mandatory : No Calculator : None Response Time : N.A Think Time : N.A Minimum Instruction Time : 0

Correct Marks : 5 Wrong Marks : 1

Question Key Details :

Key	Value
Comprehension	MCQ

'लोकस स्टेंडी' के सिद्धांत का अर्थ है :

1. न्यायालय के सम्मान का अधिकार
2. न्यायालय के समक्ष प्रस्तुत होने का अधिकार
3. न्यायालय के साथ खड़े होने का अधिकार
4. संस्कृति चाहने का अधिकार

Options :

485584135349. 1
485584135350. 2
485584135351. 3
485584135352. 4

Question Number : 254 Question Id : 48558433839 Question Type : MCQ Option Shuffling : No Is Question Mandatory : No Calculator : None Response Time : N.A Think Time : N.A Minimum Instruction Time : 0

Correct Marks : 5 Wrong Marks : 1

Question Key Details :

Key	Value
Comprehension	MCQ

Which Article of the Constitution of India says that the advisory jurisdiction of Supreme Court can be sought by President of India?

1. Article 140
2. Article 141
3. Article 142
4. Article 143

Options :

485584135353. 1
485584135354. 2
485584135355. 3
485584135356. 4

Question Number : 254 Question Id : 48558433839 Question Type : MCQ Option Shuffling : No Is Question Mandatory : No Calculator : None Response Time : N.A Think Time : N.A Minimum Instruction Time : 0

Correct Marks : 5 Wrong Marks : 1

Question Key Details :

Key	Value
Comprehension	MCQ

भारत के संविधान का कौन-सा अनुच्छेद कहता है कि भारत के राष्ट्रपति द्वारा उच्चतम न्यायालय के सलाहकारी न्यायक्षेत्र की सहायता ली जा सकती है?

1. अनुच्छेद 140
2. अनुच्छेद 141
3. अनुच्छेद 142
4. अनुच्छेद 143

Options :

485584135353. 1
485584135354. 2
485584135355. 3
485584135356. 4

Question Number : 255 Question Id : 48558433840 Question Type : MCQ Option Shuffling : No Is Question Mandatory : No Calculator : None Response Time : N.A Think Time : N.A Minimum Instruction Time : 0

Correct Marks : 5 Wrong Marks : 1

Question Key Details :

Key	Value
Comprehension	MCQ

With respect to separation of power, which of the following are true?

- A. It requires non-Harmonious relation between the legislative, Executive and Judiciary
- B. Federal Government has law making powers different than that of states or provinces
- C. It allows for liberty as it avoids concentration of powers in one branch.
- D. It promotes efficiency
- E. It facilitates checks and balances of each branch in state.

Choose the correct answer from the options given below:

- 1. B, C, D, E only
- 2. B, C, D only
- 3. C, D, E only
- 4. A, C, B only

Options :

- 485584135357. 1
- 485584135358. 2
- 485584135359. 3
- 485584135360. 4

Question Number : 255 Question Id : 48558433840 Question Type : MCQ Option Shuffling : No Is Question Mandatory : No Calculator : None Response Time : N.A Think Time : N.A Minimum Instruction Time : 0

Correct Marks : 5 Wrong Marks : 1

Question Key Details :

Key	Value
Comprehension	MCQ

शक्तियों/शक्ति के विभाजन के संबंध में निम्नलिखित में कौन-सा सत्य है?

- A. इसमें विधायिका, कार्यपालिका और न्यायपालिका के बीच गैर-सौहार्दपूर्ण संबंध की आवश्यकता होती है।
- B. संघीय सरकार के पास राज्यों या प्रांतों से विभिन्न विधि निर्माण शक्तियां होती हैं
- C. यह स्वतंत्रता की अनुमति देता है क्योंकि यह एक शाखा में शक्तियों के संकेन्द्रण से बचता है
- D. यह दक्षता बढ़ाता है
- E. यह राज्य में प्रत्येक शाखा की जाँच और संतुलन को सुगमित करता है।

नीचे दिए गए विकल्पों में से सही उत्तर दीजिए :

- 1. केवल B, C, D और E
- 2. केवल B, C और D
- 3. केवल C, D और E
- 4. केवल A, C और B

Options :

- 485584135357. 1
- 485584135358. 2
- 485584135359. 3
- 485584135360. 4

Question Number : 256 Question Id : 48558433841 Question Type : MCQ Option Shuffling : No Is Question Mandatory : No Calculator : None Response Time : N.A Think Time : N.A Minimum Instruction Time : 0

Correct Marks : 5 Wrong Marks : 1

Question Key Details :

Key	Value
Comprehension	MCQ

Arrange the courts of civil Judges in a district in ascending order.

- A. First class Judicial Magistrate court
- B. Second Class Judicial Magistrate court
- C. Munsiff Courts
- D. Chief Judicial Magistrate Court

Choose the correct answer from the options given below:

- 1. B, D, A, C
- 2. C, B, A, D
- 3. A, B, C, D
- 4. D, A, C, B

Options :

- 485584135361. 1
- 485584135362. 2
- 485584135363. 3
- 485584135364. 4

Question Number : 256 Question Id : 48558433841 Question Type : MCQ Option Shuffling : No Is Question Mandatory : No Calculator : None Response Time : N.A Think Time : N.A Minimum Instruction Time : 0

Correct Marks : 5 Wrong Marks : 1

Question Key Details :

Key	Value
Comprehension	MCQ

किसी जिले सिविल न्यायाधिशों के न्यायालयों को आरोही क्रम में व्यवस्थित करें :

- A. प्रथम श्रेणी न्यायिक मजिस्ट्रेट न्यायालय
- B. द्वितीय श्रेणी न्यायिक मजिस्ट्रेट न्यायालय
- C. मुंसिफ़ न्यायालय
- D. प्रमुख न्यायिक मजिस्ट्रेट न्यायालय

नीचे दिए गए विकल्पों में से सही उत्तर दीजिए :

- 1. B, D, A, C
- 2. C, B, A, D
- 3. A, B, C, D
- 4. D, A, C, B

Options :

- 485584135361. 1
- 485584135362. 2
- 485584135363. 3
- 485584135364. 4

Question Number : 257 Question Id : 48558433842 Question Type : MCQ Option Shuffling : No Is Question Mandatory : No Calculator : None Response Time : N.A Think Time : N.A Minimum Instruction Time : 0

Correct Marks : 5 Wrong Marks : 1

Question Key Details :

Key	Value
Comprehension	MCQ

Arrange the stages of investigations initiated by police officer for the collection of evidence in order of their occurrence:

- A. Collection of evidence
- B. Ascertaining facts and circumstances
- C. Proceeding to spot
- D. Discovery and arrest of suspected offender
- E. Investigation ends in police report to magistrate

Choose the correct answer from the options given below:

- 1. C, D, B, A, E
- 2. C, B, D, A, E
- 3. B, E, A, C, D
- 4. A, B, C, D, E

Options :

- 485584135365. 1
- 485584135366. 2
- 485584135367. 3
- 485584135368. 4

Question Number : 257 Question Id : 48558433842 Question Type : MCQ Option Shuffling : No Is Question Mandatory : No Calculator : None Response Time : N.A Think Time : N.A Minimum Instruction Time : 0

Correct Marks : 5 Wrong Marks : 1

Question Key Details :

Key	Value
Comprehension	MCQ

पुलिस अधिकारी द्वारा साक्ष्य एकत्रित करने के लिए शुरू की गई जाँच के चरणों को उनके घटित होने के क्रम में व्यवस्थित करें :

- A. साक्ष्य संकलन
- B. तथ्य और परिस्थितियों का निर्धारण
- C. घटनास्थल पर जाना
- D. संदेहास्पद अपराधी की खोज और गिरफ्तारी
- E. मजिस्ट्रेट को पुलिस रिपोर्ट के साथ जाँच समाप्ति

नीचे दिए गए विकल्पों में से सही उत्तर दीजिए :

- 1. C, D, B, A, E
- 2. C, B, D, A, E
- 3. B, E, A, C, D
- 4. A, B, C, D, E

Options :

- 485584135365. 1
- 485584135366. 2
- 485584135367. 3
- 485584135368. 4

Question Number : 258 Question Id : 48558433843 Question Type : MCQ Option Shuffling : No Is Question Mandatory : No Calculator : None Response Time : N.A Think Time : N.A Minimum Instruction Time : 0

Correct Marks : 5 Wrong Marks : 1

Question Key Details :

Key	Value
Comprehension	MCQ

A woman in sheer destitute and impoverishment attempted to kill herself after failing in all ways to arrange for food for her starving children. She did it knowingly therefore she will be held guilty by the Court because:

- 1. the act was done under compulsion
- 2. the act was done out of necessity
- 3. the act was done due to insanity
- 4. the act was done intentionally

Options :

- 485584135369. 1
- 485584135370. 2
- 485584135371. 3
- 485584135372. 4

Question Number : 258 Question Id : 48558433843 Question Type : MCQ Option Shuffling : No Is Question Mandatory : No Calculator : None Response Time : N.A Think Time : N.A Minimum Instruction Time : 0

Correct Marks : 5 Wrong Marks : 1

Question Key Details :

Key	Value
Comprehension	MCQ

किसी महिला ने भूखे मरते अपने बच्चों के लिए भोजन की व्यवस्था करने में असफल रहने पर घोर निराशा और दरिद्रता में अपने-आप को मारने का प्रयास किया। उसने जान-बूझकर ऐसा किया। इसलिए वह न्यायालय द्वारा दोषी ठहराई जाएगी क्योंकि :-

1. कृत्य मजबूरी में किया गया
2. कृत्य जरूरत के कारण किया गया
3. कृत्य विक्षिप्तता के कारण किया गया
4. कृत्य इरादतन किया गया

Options :

485584135369. 1
485584135370. 2
485584135371. 3
485584135372. 4

Question Number : 259 Question Id : 48558433844 Question Type : MCQ Option Shuffling : No Is Question Mandatory : No Calculator : None Response Time : N.A Think Time : N.A Minimum Instruction Time : 0

Correct Marks : 5 Wrong Marks : 1

Question Key Details :

Key	Value
Comprehension	MCQ

Crime committed by structured groups typically involving the distribution of illegal goods and services to others is known as-

1. White Collar crime
2. Crime against groups
3. Organised Crimes
4. Gang War

Options :

485584135373. 1
485584135374. 2
485584135375. 3
485584135376. 4

Question Number : 259 Question Id : 48558433844 Question Type : MCQ Option Shuffling : No Is Question Mandatory : No Calculator : None Response Time : N.A Think Time : N.A Minimum Instruction Time : 0

Correct Marks : 5 Wrong Marks : 1

Question Key Details :

Key	Value
Comprehension	MCQ

संरचनाबद्ध समूहों द्वारा सामान्य तौर पर दूसरों को अवैध वस्तुओं और सेवाओं के वितरण द्वारा किए जाने वाले अपराध को कहा जाता है -

1. सफेदपोश अपराध
2. समूहों के विरुद्ध अपराध
3. संगठित अपराध
4. गैंगवार/गुट संघर्ष

Options :

485584135373. 1
485584135374. 2
485584135375. 3
485584135376. 4

Question Number : 260 Question Id : 48558433845 Question Type : MCQ Option Shuffling : No Is Question Mandatory : No Calculator : None Response Time : N.A Think Time : N.A Minimum Instruction Time : 0

Correct Marks : 5 Wrong Marks : 1

Question Key Details :

Key	Value
Comprehension	MCQ

If the intention is to reap fruits from the trees, the trees would be considered

1. Immovable property
2. Movable property
3. General property
4. Intangible property

Options :

485584135377. 1
485584135378. 2
485584135379. 3
485584135380. 4

Question Number : 260 Question Id : 48558433845 Question Type : MCQ Option Shuffling : No Is Question Mandatory : No Calculator : None Response Time : N.A Think Time : N.A Minimum Instruction Time : 0

Correct Marks : 5 Wrong Marks : 1

Question Key Details :

Key	Value
Comprehension	MCQ

यदि इरादा पेड़ से फल तोड़ने का है, तो पेड़ को माना जाएगा -

1. चल संपत्ति
2. अचल संपत्ति
3. सामान्य संपत्ति
4. अमूर्त संपत्ति

Options :

485584135377. 1
485584135378. 2
485584135379. 3
485584135380. 4

Question Number : 261 Question Id : 48558433846 Question Type : MCQ Option Shuffling : No Is Question Mandatory : No Calculator : None Response Time : N.A Think Time : N.A Minimum Instruction Time : 0

Correct Marks : 5 Wrong Marks : 1

Question Key Details :

Key	Value
Comprehension	MCQ

A sells his garden as well as house through the instrument to B. whereas B, wants to retain only the house and wants to cancel the garden. B has to retain the garden if he wants the house or cancel the whole transaction.' Which of the following doctrine is applicable in this instance

1. Doctrine of lis Pendens
2. Doctrine of Suitability
3. Doctrine of Election
4. Doctrine of Exchange

Options :

485584135381. 1
485584135382. 2
485584135383. 3
485584135384. 4

Question Number : 261 Question Id : 48558433846 Question Type : MCQ Option Shuffling : No Is Question Mandatory : No Calculator : None Response Time : N.A Think Time : N.A Minimum Instruction Time : 0

Correct Marks : 5 Wrong Marks : 1

Question Key Details :

Key	Value
Comprehension	MCQ

A अपना बगीचा घर के साथ उपकरण/प्रपत्र द्वारा B को बेचता है। जबकि B, केवल घर को रखना चाहता है और बगीचे को निरस्त करना चाहता है। B को बगीचा रखना होगा यदि उसे घर चाहिए अन्यथा उसे पूरा अंतरण निरस्त करना होगा। इस मामले में निम्नलिखित में से कौन-सा सिद्धांत लागू होगा :

1. लिस पेंडेंस का सिद्धांत
2. यथोचित का सिद्धांत
3. चुनाव का सिद्धांत
4. विनिमय का सिद्धांत

Options :

485584135381. 1
485584135382. 2
485584135383. 3
485584135384. 4

Question Number : 262 Question Id : 48558433847 Question Type : MCQ Option Shuffling : No Is Question Mandatory : No Calculator : None Response Time : N.A Think Time : N.A Minimum Instruction Time : 0

Correct Marks : 5 Wrong Marks : 1

Question Key Details :

Key	Value
Comprehension	MCQ

In what kind of transfer of property, the right and liabilities of the parties to exchange shall be that of the rights and liabilities of the buyer to the extent of receiving and that of the seller to the extent of giving.

1. Gift
2. Lease
3. Exchange
4. Mortgage

Options :

485584135385. 1
485584135386. 2
485584135387. 3
485584135388. 4

Question Number : 262 Question Id : 48558433847 Question Type : MCQ Option Shuffling : No Is Question Mandatory : No Calculator : None Response Time : N.A Think Time : N.A Minimum Instruction Time : 0

Correct Marks : 5 Wrong Marks : 1

Question Key Details :

Key	Value
Comprehension	MCQ

किस प्रकार के संपत्ति हस्तांतरण में विनिमय के पक्षकारों के अधिकार और देनदारियाँ, प्राप्त करने की सीमा तक खरीददार के अधिकार और देनदारियाँ तथा प्रदान करने की सीमा तक खरीददार के अधिकार और देनदारियाँ तथा प्रदान करने की सीमा तक विक्रेता के अधिकार और देनदारियाँ होगी।

1. उपहार
2. पट्टा
3. विनिमय
4. बन्दक

Options :

485584135385. 1
 485584135386. 2
 485584135387. 3
 485584135388. 4

Question Number : 263 Question Id : 48558433848 Question Type : MCQ Option Shuffling : No Is Question Mandatory : No Calculator : None Response Time : N.A Think Time : N.A Minimum Instruction Time : 0

Correct Marks : 5 Wrong Marks : 1

Question Key Details :

Key	Value
Comprehension	MCQ

Match List I with List II

LIST I		LIST II	
A.	False Imprisonment	I.	act of deliberate physical harm to victim
B.	Unlawful harassment	II.	claimant to be knowingly confined
C.	Tresspass to Chattels	III.	invade real property without claimants approval
D.	Tresspass to land	IV.	intermeddle with a chattel which was in the possession of claimant

Choose the correct answer from the options given below:

1. A-I, B-IV, C-II, D-III
2. A-II, B-I, C-IV, D-III
3. A-III, B-II, C-I, D-IV
4. A-IV, B-III, C-I, D-II

Options :

485584135389. 1
 485584135390. 2
 485584135391. 3
 485584135392. 4

Question Number : 263 Question Id : 48558433848 Question Type : MCQ Option Shuffling : No Is Question Mandatory : No Calculator : None Response Time : N.A Think Time : N.A Minimum Instruction Time : 0

Correct Marks : 5 Wrong Marks : 1

Question Key Details :

Key	Value
Comprehension	MCQ

सूची I का सूची II से मिलान कीजिए

सूची I		सूची II	
A.	मिथ्या कारावास	I.	पीड़ित को इरादतन शारीरिक घात का कृत्य
B.	गैर-विधिक शोषण	II.	वादी को जानबूझकर विरुद्ध रखना
C.	संपत्ति में बिना अनुमति प्रवेश	III.	वादी/दवाकर्ता के अनुमोदन के बिना वास्तविक संपत्ति में प्रवेश
D.	भूमि में बिना अनुमति प्रवेश	IV.	वादी/दवाकर्ता के कब्जे वाली चल-संपत्ति में हस्तक्षेप

निम्नलिखित विकल्पों में से सही उत्तर का चयन कीजिए :

1. A-I, B-IV, C-II, D-III
2. A-II, B-I, C-IV, D-III
3. A-III, B-II, C-I, D-IV
4. A-IV, B-III, C-I, D-II

Options :

485584135389. 1
485584135390. 2
485584135391. 3
485584135392. 4

Question Number : 264 Question Id : 48558433849 Question Type : MCQ Option Shuffling : No Is Question Mandatory : No Calculator : None Response Time : N.A Think Time : N.A Minimum Instruction Time : 0

Correct Marks : 5 Wrong Marks : 1

Question Key Details :

Key	Value
Comprehension	MCQ

The principle of "Duty of Care" is explained in which case:-

1. Donoghue v. Stevenson
2. Rylands v. Fletcher
3. Ashby v. White
4. M.C. Mehta v. Union of India

Options :

485584135393. 1
485584135394. 2
485584135395. 3
485584135396. 4

Question Number : 264 Question Id : 48558433849 Question Type : MCQ Option Shuffling : No Is Question Mandatory : No Calculator : None Response Time : N.A Think Time : N.A Minimum Instruction Time : 0

Correct Marks : 5 Wrong Marks : 1

Question Key Details :

Key	Value
Comprehension	MCQ

"देखभाल का कर्तव्य" का सिद्धांत किस वाद में स्पष्ट किया गया है-

1. डोनोग्ह्यू बनाम स्टीवेनसन
2. रिलैंड्स बनाम फ्लैचर
3. एशबे बनाम व्हाइट
4. एम. सी. मेहता बनाम भारत संघ

Options :

- 485584135393. 1
- 485584135394. 2
- 485584135395. 3
- 485584135396. 4

Question Number : 265 Question Id : 48558433850 Question Type : MCQ Option Shuffling : No Is Question Mandatory : No Calculator : None Response Time : N.A Think Time : N.A Minimum Instruction Time : 0

Correct Marks : 5 Wrong Marks : 1

Question Key Details :

Key	Value
Comprehension	MCQ

A contract without consideration is

1. valid
2. Void
3. Voidable
4. Void ab initio

Options :

- 485584135397. 1
- 485584135398. 2
- 485584135399. 3
- 485584135400. 4

Question Number : 265 Question Id : 48558433850 Question Type : MCQ Option Shuffling : No Is Question Mandatory : No Calculator : None Response Time : N.A Think Time : N.A Minimum Instruction Time : 0

Correct Marks : 5 Wrong Marks : 1

Question Key Details :

Key	Value
Comprehension	MCQ

प्रतिफल के बिना एक अनुबंध है :

1. वैध
2. शून्य
3. शून्यन योग्य
4. आरंभ से शून्य

Options :

485584135397. 1
485584135398. 2
485584135399. 3
485584135400. 4

Question Number : 266 Question Id : 48558433851 Question Type : MCQ Option Shuffling : No Is Question Mandatory : No Calculator : None Response Time : N.A Think Time : N.A Minimum Instruction Time : 0

Correct Marks : 5 Wrong Marks : 1

Question Key Details :

Key	Value
Comprehension	MCQ

A contract can be enforced before the court only if it creates legal obligation among the parties. In light of the statement choose the correct answer.

- A. An agreement entered into with a minor is enforceable in exceptional circumstance
- B. An agreement entered between husband and wife cannot be enforced in the court
- C. An agreement with inadequate consideration is a voidable agreement
- D. A promise without consideration can create a valid contract
- E. An agreement with an intoxicated person cannot be called as contract

Choose the correct answer from the options given below:

1. A, B, D only
2. B and E only
3. C, D and E only
4. A, C and D only

Options :

485584135401. 1
485584135402. 2
485584135403. 3
485584135404. 4

Question Number : 266 Question Id : 48558433851 Question Type : MCQ Option Shuffling : No Is Question Mandatory : No Calculator : None Response Time : N.A Think Time : N.A Minimum Instruction Time : 0

Correct Marks : 5 Wrong Marks : 1

Question Key Details :

Key	Value
-----	-------

किसी अनुबंध को न्यायालय के समक्ष तभी प्रवर्तन किया जा सकेगा यदि यह पक्षकारों के बीच विधिक दायित्व सृजित करता है। कथन के आलोक में सही उत्तर का चयन करें :

- नाबालिग के साथ किया गया समझौता अपवादस्वरूप परिस्थिति में प्रवर्तनीय है।
- पति और पत्नी के बीच हुआ समझौता न्यायालय में प्रवर्तनीय नहीं किया जा सकता।
- अपर्याप्त प्रतिफल वाला समझौता शून्यन योग्य है।
- प्रतिफल के बिना वायदा वैध अनुबंध सृजित कर सकता है।
- मादक द्रव्य प्रयोक्ता व्यक्ति के साथ किया गया समझौता अनुबंध नहीं कहा जा सकता है।

नीचे दिए गए विकल्पों में से सही उत्तर दीजिए :

- केवल A, B और D
- केवल B और E
- केवल C, D और E
- केवल A, C और D

Options :

485584135401. 1
485584135402. 2
485584135403. 3
485584135404. 4

Question Number : 267 Question Id : 48558433852 Question Type : MCQ Option Shuffling : No Is Question Mandatory : No Calculator : None Response Time : N.A Think Time : N.A Minimum Instruction Time : 0

Correct Marks : 5 Wrong Marks : 1

Question Key Details :

Key	Value
Comprehension	MCQ

Match List I with List II

LIST I		LIST II	
A.	Novation	I.	Terms of contract of modified
B.	Rescission	II.	New contract is substituted for an old contract
C.	Waiver	III.	Certain or all terms of contract are cancelled
D.	Alteration	IV.	Parties to a contract abandon their mutual rights

Choose the correct answer from the options given below:

- A-II, B-III, C-IV, D-I
- A-II, B-I, C-III, D-IV
- A-I, B-III, C-IV, D-II
- A-III, B-II, C-IV, D-I

Options :

485584135405. 1
485584135406. 2
485584135407. 3
485584135408. 4

Question Number : 267 Question Id : 48558433852 Question Type : MCQ Option Shuffling : No Is Question Mandatory : No Calculator : None Response Time : N.A Think Time : N.A Minimum Instruction Time : 0

Correct Marks : 5 Wrong Marks : 1

Question Key Details :

Key	Value
Comprehension	MCQ

सूची I का सूची II से मिलान कीजिए

सूची I		सूची II	
A.	नवीकरण	I.	अनुबंध की शर्तें रूपांतरित की गईं
B.	निरसन	II.	पुराने अनुबंध के स्थान पर नवीन अनुबंध प्रतिस्थापित
C.	अधित्याग	III.	अनुबंध की कतिपय या सभी शर्तें निरस्त हैं।
D.	परिवर्तन	IV.	अनुबंध के पक्षकार अपने परस्पर अधिकारों को त्यागते हैं।

निम्नलिखित विकल्पों में से सही उत्तर का चयन कीजिए :

1. A-II, B-III, C-IV, D-I
2. A-II, B-I, C-III, D-IV
3. A-I, B-III, C-IV, D-II
4. A-III, B-II, C-IV, D-I

Options :

485584135405. 1
485584135406. 2
485584135407. 3
485584135408. 4

Question Number : 268 Question Id : 48558433853 Question Type : MCQ Option Shuffling : No Is Question Mandatory : No Calculator : None Response Time : N.A Think Time : N.A Minimum Instruction Time : 0

Correct Marks : 5 Wrong Marks : 1

Question Key Details :

Key	Value
Comprehension	MCQ

'A' agrees to supply 200 liters of oil to 'B' on 1st February 2023. The contract was entered between the two on 15th January 2023. On 31st January 2023, 'A' informed 'B' that the consignment has been dispatched and would reach 'B' on scheduled date. On 1st Feb 2023, 'B' refused to accept the oil as he did not have sufficient space to store the oil.

What is the remedy available with 'A'?

1. No remedy as the contract is discharged by impossibility of performance
2. No remedy is available as 'A' will get back his goods, so has not suffered any loss
3. 'A' is entitled to receive compensation from 'B' for breach of contract
4. 'A' can wait till 'B' arrange for warehouse

Options :

485584135409. 1
485584135410. 2
485584135411. 3
485584135412. 4

Question Number : 268 Question Id : 48558433853 Question Type : MCQ Option Shuffling : No Is Question Mandatory : No Calculator : None Response Time : N.A Think Time : N.A Minimum Instruction Time : 0

Correct Marks : 5 Wrong Marks : 1

Question Key Details :

Key	Value
Comprehension	MCQ

'A' 1 फरवरी 2023 को 'B' को 200 लीटर तेल की आपूर्ति करने पर सहमत होता है। दोनों के बीच अनुबंध 15 जनवरी 2023 को हुआ। 31 जनवरी 2023 को 'A' ने 'B' को सूचित किया की माल प्रेषित कर दिया गया और 'B' के पास निर्धारित समय पर पहुँचेगा। 1 फरवरी 2023, को 'B' ने तेल स्वीकार करने से मना कर दिया क्योंकि उसके पास तेल भंडारण के लिए पर्याप्त जगह नहीं थी। 'A' के पास उपलब्ध उपचार क्या है?

1. कोई उपचार नहीं क्योंकि अनुबंध निष्पादन की असंभाव्यता द्वारा निर्वहन किया गया
2. कोई उपचार नहीं क्योंकि 'A' अपना सामान वापस प्राप्त कर लेगा, इसलिए उसे कोई हानि नहीं हुई है।
3. अनुबंध उल्लंघन के लिए 'A', 'B' से मुआवजा प्राप्त करने का हकदार है।
4. 'B' द्वारा वेयरहाउस की व्यवस्था किए जाने तक 'A' प्रतीक्षा कर सकता है।

Options :

485584135409. 1
485584135410. 2
485584135411. 3
485584135412. 4

Question Number : 269 Question Id : 48558433854 Question Type : MCQ Option Shuffling : No Is Question Mandatory : No Calculator : None Response Time : N.A Think Time : N.A Minimum Instruction Time : 0

Correct Marks : 5 Wrong Marks : 1

Question Key Details :

Key	Value
Comprehension	MCQ

Which of the given statements is NOT correct for the Tribunals as a dispute resolution institution?

1. The 42nd Amendment Act empowered the Parliament to set up tribunals for adjudication of specialised disputes
2. The tribunals are meant to replace the courts as the courts are over burdened with pendency of cases.
3. The decisions of the tribunals could be scrutinised by the division of High Courts
4. Regulations oversee the law and order compliance by the tribunals in the relevant government sector.

Options :

485584135413. 1
485584135414. 2
485584135415. 3
485584135416. 4

Question Number : 269 Question Id : 48558433854 Question Type : MCQ Option Shuffling : No Is Question Mandatory : No Calculator : None Response Time : N.A Think Time : N.A Minimum Instruction Time : 0

Correct Marks : 5 Wrong Marks : 1

Question Key Details :

Key	Value
Comprehension	MCQ

विवाद समाधान संस्थान के रूप में अधिकरणों के लिए निम्नलिखित कथनों में से कौन-सा सही नहीं है?

1. 42वें संशोधन ने संसद को विशेषीकृत विवादों के समाधान हेतु अधिकरण स्थापित करने में सक्षम बनाया।
2. अधिकरणों का उद्देश्य न्यायालयों की जगह लेना है क्योंकि न्यायालय लंबित वादों के बोझ से दबे हैं।
3. अधिकरणों के निर्णयों की उच्च न्यायालयों की डिवीजन बैंच द्वारा जाँच की जा सकती है।
4. संबंधित संप्रभु क्षेत्र में अधिकरणों द्वारा लोकव्यवस्था और कानून अनुपालन का अनवीक्षण विनियामकों द्वारा किया जाता है।

Options :

485584135413. 1
485584135414. 2
485584135415. 3
485584135416. 4

Question Number : 270 Question Id : 48558433855 Question Type : MCQ Option Shuffling : No Is Question Mandatory : No Calculator : None Response Time : N.A Think Time : N.A Minimum Instruction Time : 0

Correct Marks : 5 Wrong Marks : 1

Question Key Details :

Key	Value
Comprehension	MCQ

Choose the correct statements

- A. The 42nd Amendment Act ushered the era of Human Rights in India
- B. The 42nd Amendment Act 1976 added Articles 323 A and 323 B to the Constitution of India
- C. Administrative Tribunals Act 1985 was enacted to cater the needs of SC/ST/OBC people.
- D. In L Chandra Kumar case, the seven judge bench of the Supreme Court held that tribunals would not take away the exclusive jurisdiction of the courts.

Choose the correct answer from the options given below:

- 1. A, B, C only
- 2. B and C only
- 3. B and D only
- 4. C and D only

Options :

- 485584135417. 1
- 485584135418. 2
- 485584135419. 3
- 485584135420. 4

Question Number : 270 Question Id : 48558433855 Question Type : MCQ Option Shuffling : No Is Question Mandatory : No Calculator : None Response Time : N.A Think Time : N.A Minimum Instruction Time : 0

Correct Marks : 5 Wrong Marks : 1

Question Key Details :

Key	Value
Comprehension	MCQ

सत्य कथनों का चयन करें :

42वां संशोधन अधिनियम ने भारत में मानवाधिकारों का युग शुरू किया

42वां संशोधन अधिनियम ने भारत के संविधान में अनुच्छेद 323क और 323ख जोड़े।

एससी/एसटी/ओबीसी लोगों की ई जरूरतों हेतु प्रशासनिक अधिकरण एक्ट, 1985 अधिनियमित किया गया।

एल चंद्र कुमार वाद में, उच्चतम न्यायालय ने स्थापना दी कि अधिकरण, न्यायालयों के अनन्य न्यायक्षेत्र को नहीं ले सकेंगे।

नीचे दिए गए विकल्पों में से सही उत्तर दीजिए :

- 1. केवल A, B, C
- 2. केवल B और C
- 3. केवल B और D
- 4. केवल C और D

Options :

- 485584135417. 1
- 485584135418. 2

485584135419. 3

485584135420. 4

Question Number : 271 Question Id : 48558433856 Question Type : MCQ Option Shuffling : No Is Question Mandatory : No Calculator : None Response Time : N.A Think Time : N.A Minimum Instruction Time : 0

Correct Marks : 5 Wrong Marks : 1

Question Key Details :

Key	Value
Comprehension	MCQ

Central Vigilance Commission (CVC) was set up on the recommendation of which Committee:

1. Narsimhan Committee
2. Verma Committee
3. Tiwari Committee
4. Santhanam Committee

Options :

485584135421. 1

485584135422. 2

485584135423. 3

485584135424. 4

Question Number : 271 Question Id : 48558433856 Question Type : MCQ Option Shuffling : No Is Question Mandatory : No Calculator : None Response Time : N.A Think Time : N.A Minimum Instruction Time : 0

Correct Marks : 5 Wrong Marks : 1

Question Key Details :

Key	Value
Comprehension	MCQ

केंद्रीय सतर्कता आयोग (सीवीसी) किस समिति की सिफारिश पर स्थापित किया गया था?

1. नरसिम्हन समिति
2. वर्मा समिति
3. तिवारी समिति
4. संथानम समिति

Options :

485584135421. 1

485584135422. 2

485584135423. 3

485584135424. 4

Question Number : 272 Question Id : 48558433857 Question Type : MCQ Option Shuffling : No Is Question Mandatory : No Calculator : None Response Time : N.A Think Time : N.A Minimum Instruction Time : 0

Correct Marks : 5 Wrong Marks : 1

Question Key Details :

Key	Value
-----	-------

Comprehension	MCQ
---------------	-----

ADR methods are _____ when compared to conventional Judicial Procedure.

1. Speedier, Informal and cheaper
2. Speedier, formal and costly
3. Formal, cheaper and slow
4. Slow, cheaper and informal

Options :

485584135425. 1
485584135426. 2
485584135427. 3
485584135428. 4

Question Number : 272 Question Id : 48558433857 Question Type : MCQ Option Shuffling : No Is Question Mandatory : No Calculator : None Response Time : N.A Think Time : N.A Minimum Instruction Time : 0

Correct Marks : 5 Wrong Marks : 1

Question Key Details :

Key	Value
Comprehension	MCQ

परंपरागत न्यायिक प्रक्रिया की तुलना में एडीआर विधियाँ _____ है।

1. त्वरित, अनौपचारिक और सस्ती
2. त्वरित, औपचारिक और महंगी
3. औपचारिक, सस्ती और धीमी
4. धीमी, सस्ती और अनौपचारिक

Options :

485584135425. 1
485584135426. 2
485584135427. 3
485584135428. 4

Question Number : 273 Question Id : 48558433858 Question Type : MCQ Option Shuffling : No Is Question Mandatory : No Calculator : None Response Time : N.A Think Time : N.A Minimum Instruction Time : 0

Correct Marks : 5 Wrong Marks : 1

Question Key Details :

Key	Value
Comprehension	MCQ

The first Lok Adalat was held in India in Junagarh in Gujarat on:-

1. 14 March 1982
2. 15 March 1982
3. 14 May 1982
4. 15 April 1982

Options :

485584135429. 1
485584135430. 2
485584135431. 3
485584135432. 4

Question Number : 273 Question Id : 48558433858 Question Type : MCQ Option Shuffling : No Is Question Mandatory : No Calculator : None Response Time : N.A Think Time : N.A Minimum Instruction Time : 0

Correct Marks : 5 Wrong Marks : 1

Question Key Details :

Key	Value
Comprehension	MCQ

भारत में प्रथम अदालत गुजरात के जूनागढ़ में कब आयोजित की गई :-

1. 14 मार्च 1982
2. 15 मार्च 1982
3. 14 मार्च 1982
4. 15 अप्रैल 1982

Options :

485584135429. 1
485584135430. 2
485584135431. 3
485584135432. 4

Question Number : 274 Question Id : 48558433859 Question Type : MCQ Option Shuffling : No Is Question Mandatory : No Calculator : None Response Time : N.A Think Time : N.A Minimum Instruction Time : 0

Correct Marks : 5 Wrong Marks : 1

Question Key Details :

Key	Value
Comprehension	MCQ

The Vedic age in India, witnessed specialised tribunal for settling disputes of family, community, tribe, caste and races.

Identify the name of the tribunal.

1. Kula
2. Shreni
3. Puga
4. Panchayat

Options :

485584135433. 1
485584135434. 2
485584135435. 3
485584135436. 4

Question Number : 274 Question Id : 48558433859 Question Type : MCQ Option Shuffling : No Is Question Mandatory : No Calculator : None Response Time : N.A Think Time : N.A Minimum Instruction Time : 0

Correct Marks : 5 Wrong Marks : 1

Question Key Details :

Key	Value
Comprehension	MCQ

भारत में वैदिक युग में परिवार, समुदाय, जनजाति, जाति और नस्लों के विवादों के निपटान हेतु विशेषीकृत अधिकरणों की व्यवस्था थी। अधिकरण के नाम की पहचान करें :-

1. कुल
2. श्रेणी
3. पुग
4. पंचायत

Options :

485584135433. 1
485584135434. 2
485584135435. 3
485584135436. 4

Question Number : 275 Question Id : 48558433860 Question Type : MCQ Option Shuffling : No Is Question Mandatory : No Calculator : None Response Time : N.A Think Time : N.A Minimum Instruction Time : 0

Correct Marks : 5 Wrong Marks : 1

Question Key Details :

Key	Value
Comprehension	MCQ

According to Preamble of Indian Constitution secures to all its citizen:

- A. Secularism
- B. Justice
- C. Socialism
- D. Fraternity
- E. Sovereignty

Choose the correct answer from the options given below:

- 1. A, B only
- 2. B, D only
- 3. D, E only
- 4. A, C only

Options :

- 485584135437. 1
- 485584135438. 2
- 485584135439. 3
- 485584135440. 4

Question Number : 275 Question Id : 48558433860 Question Type : MCQ Option Shuffling : No Is Question Mandatory : No Calculator : None Response Time : N.A Think Time : N.A Minimum Instruction Time : 0

Correct Marks : 5 Wrong Marks : 1

Question Key Details :

Key	Value
Comprehension	MCQ

भारतीय संविधान की प्रस्तावना अपने सभी नागरिकों के लिए निम्नलिखित में से क्या प्राप्त करने का लक्ष्य रखती है :

- A. धर्म निरपेक्षता
- B. न्याय
- C. समाजवाद
- D. बंधुता
- E. संप्रभुता

नीचे दिए गए विकल्पों में से सही उत्तर दीजिए :

- 1. केवल A, B
- 2. केवल B, D
- 3. केवल D, E
- 4. केवल A, C

Options :

- 485584135437. 1
- 485584135438. 2
- 485584135439. 3
- 485584135440. 4

Question Number : 276 Question Id : 48558433861 Question Type : MCQ Option Shuffling : No Is Question Mandatory : No Calculator : None Response Time : N.A Think Time : N.A Minimum Instruction Time : 0 Correct Marks : 5 Wrong Marks : 1

Question Key Details :

Key	Value
Comprehension	MCQ

LAMP (Legislative Assistants to Members of Parliament) fellowship program, provides fellowship to law students interested in public policy. This (LAMP) program is run by:

1. Competition Commission of India
2. Bar Council of India
3. Securities and Exchange Board of India
4. PRS Legislative Research

Options :

- 485584135441. 1
- 485584135442. 2
- 485584135443. 3
- 485584135444. 4

Question Number : 276 Question Id : 48558433861 Question Type : MCQ Option Shuffling : No Is Question Mandatory : No Calculator : None Response Time : N.A Think Time : N.A Minimum Instruction Time : 0 Correct Marks : 5 Wrong Marks : 1

Question Key Details :

Key	Value
Comprehension	MCQ

लैम्प (संसद सदस्यों कए लिए विधायी सहायक) फेलोशिप कार्यक्रम लोक नीति में इच्छुक विधि छात्रों को फेलोशिप प्रदान करता है। यह (लैम्प) कार्यक्रम निम्नलिखित में से किसके द्वारा संचालित है :

1. भारतीय प्रतिस्पर्धा आयोग
2. बार काउंसिल ऑफ इंडिया
3. भारतीय प्रतिभूति और विनिमय बोर्ड
4. पीआरएस विधायी शोध

Options :

- 485584135441. 1
- 485584135442. 2
- 485584135443. 3
- 485584135444. 4

Question Number : 277 Question Id : 48558433862 Question Type : MCQ Option Shuffling : No Is Question Mandatory : No Calculator : None Response Time : N.A Think Time : N.A Minimum Instruction Time : 0 Correct Marks : 5 Wrong Marks : 1

Question Key Details :

Key	Value
-----	-------

Comprehension	MCQ
---------------	-----

In 1987, the first National Law School of India was set up in:

1. Jodhpur
2. Kolkata
3. Bangalore
4. Patna

Options :

485584135445. 1
485584135446. 2
485584135447. 3
485584135448. 4

Question Number : 277 Question Id : 48558433862 Question Type : MCQ Option Shuffling : No Is Question Mandatory : No Calculator : None Response Time : N.A Think Time : N.A Minimum Instruction Time : 0

Correct Marks : 5 Wrong Marks : 1

Question Key Details :

Key	Value
Comprehension	MCQ

1987 में प्रथम भारतीय राष्ट्रीय विधि स्कूल कहाँ स्थापित किया गया था :

1. जोधपुर
2. कोलकाता
3. बंगलौर
4. पटना

Options :

485584135445. 1
485584135446. 2
485584135447. 3
485584135448. 4

Question Number : 278 Question Id : 48558433863 Question Type : MCQ Option Shuffling : No Is Question Mandatory : No Calculator : None Response Time : N.A Think Time : N.A Minimum Instruction Time : 0

Correct Marks : 5 Wrong Marks : 1

Question Key Details :

Key	Value
Comprehension	MCQ

Women were included in the legal profession after the enactment of _____.

1. Advocates Act, 1961
2. Legal Practitioners (Women) Act, 1923
3. Government of India Act, 1923
4. Legal Practitioners Act, 1846

Options :

485584135449. 1
485584135450. 2
485584135451. 3
485584135452. 4

Question Number : 278 Question Id : 48558433863 Question Type : MCQ Option Shuffling : No Is Question Mandatory : No Calculator : None Response Time : N.A Think Time : N.A Minimum Instruction Time : 0

Correct Marks : 5 Wrong Marks : 1

Question Key Details :

Key	Value
Comprehension	MCQ

विधिक पेशे में महिलाओं को _____ के अधिनियमन के बाद शामिल किया गया।

1. अधिवक्ता अधिनियम, 1961
2. विधिक व्यवसायी (महिला) एक्ट, 1923
3. भारत सरकार अधिनियम, 1923
4. विधिक व्यवसायी एक्ट, 1846

Options :

485584135449. 1
485584135450. 2
485584135451. 3
485584135452. 4

Question Number : 279 Question Id : 48558433864 Question Type : MCQ Option Shuffling : No Is Question Mandatory : No Calculator : None Response Time : N.A Think Time : N.A Minimum Instruction Time : 0

Correct Marks : 5 Wrong Marks : 1

Question Key Details :

Key	Value
Comprehension	MCQ

Arrange the below mentioned incidents in the correct sequence leading to liberalization of the legal profession:

- A. Madras HC's decision permitting lawyers to practice in India on a 'Fly in and fly out' basis
- B. Amendment in Advocate Act for preparing a level playing field for Indian Lawyers
- C. Signing of WTO Treaty by Government of India
- D. Judgment of Bombay HC that foreign law firms could not be permitted to set up liaison office in India
- E. Resolution passed by Bar Council of India opposing the opening up of legal profession to foreign lawyers

Choose the correct answer from the options given below:

- 1. C - B - E - D - A
- 2. A - C - D - E - B
- 3. D - B - E - C - A
- 4. A - C - B - E - D

Options :

- 485584135453. 1
- 485584135454. 2
- 485584135455. 3
- 485584135456. 4

Question Number : 279 Question Id : 48558433864 Question Type : MCQ Option Shuffling : No Is Question Mandatory : No Calculator : None Response Time : N.A Think Time : N.A Minimum Instruction Time : 0

Correct Marks : 5 Wrong Marks : 1

Question Key Details :

Key	Value
Comprehension	MCQ

विधिक पेशे के उदारीकरण को सुगम बनाने वाली निम्नलिखित घटनाओं को सही अनुक्रम में व्यवस्थित करें :

- A. मद्रास उच्च न्यायालय ने वकीलों को भारत में 'आओ और जाओ' आधार पर अनुमति प्रदान की
- B. भारतीय वकीलों के लिए समान अवसर तैयार करने के लिए एडवोकेट एक्ट में संशोधन
- C. भारत सरकार द्वारा डब्ल्यू टी ओ संधि पर हस्ताक्षर
- D. बॉम्बे उच्च न्यायालय का निर्णय कि विदेशी विधि फ़र्मों को भारत में संपर्क कार्यालय स्थापित करने कीई अनुमति नहीं दी जा सकती है।
- E. बार काउंसिल ऑफ इंडिया द्वारा पारित संकल्प जिसमें विदेशी वकीलों के लिए विधिक पेशा खोलने का विरोध किया गया।

नीचे दिए गए विकल्पों में से सही उत्तर दीजिए :

- 1. C - B - E - D - A
- 2. A - C - D - E - B
- 3. D - B - E - C - A
- 4. A - C - B - E - D

Options :

- 485584135453. 1

485584135454. 2
485584135455. 3
485584135456. 4

Question Number : 280 Question Id : 48558433865 Question Type : MCQ Option Shuffling : No Is Question Mandatory : No Calculator : None Response Time : N.A Think Time : N.A Minimum Instruction Time : 0

Correct Marks : 5 Wrong Marks : 1

Question Key Details :

Key	Value
Comprehension	MCQ

Match List I with List II

LIST I Countries		LIST II Regulation/Restriction on Advertisement	
A.	USA	I.	Bar Council of India Rules
B.	Malayasia	II.	Model Rules of Professional Conduct
C.	India	III.	Legal Profession (Publicity Rules) 2001
D.	Hongkong	IV.	Forbidden to advertise on television, radio and in cinemas

Choose the correct answer from the options given below:

1. A-I, B-II, C-IV, D-III
2. A-II, B-III, C-I, D-IV
3. A-III, B-IV, C-II, D-I
4. A-IV, B-I, C-III, D-II

Options :

485584135457. 1
485584135458. 2
485584135459. 3
485584135460. 4

Question Number : 280 Question Id : 48558433865 Question Type : MCQ Option Shuffling : No Is Question Mandatory : No Calculator : None Response Time : N.A Think Time : N.A Minimum Instruction Time : 0

Correct Marks : 5 Wrong Marks : 1

Question Key Details :

Key	Value
Comprehension	MCQ

सूची I को सूची II से सुमेलित करें :

LIST I		LIST II	
देश		विज्ञापन पर विनियमन/प्रतिबंध	
A.	यूएसए	I.	बार काउंसिल ऑफ इंडिया नियम
B.	मलेशिया	II.	पेशेवर आचार के मॉडल नियम
C.	भारत	III.	विधिक पेशा (प्रचार नियम) 2001
D.	हांगकांग	IV.	टेलीविजन, रेडियो और सिनेमा में विज्ञान पर प्रतिबंध

नीचे दिए गए विकल्पों में से सही उत्तर दीजिए :

1. A-I, B-II, C-IV, D-III
2. A-II, B-III, C-I, D-IV
3. A-III, B-IV, C-II, D-I
4. A-IV, B-I, C-III, D-II

Options :

485584135457. 1
485584135458. 2
485584135459. 3
485584135460. 4

Question Number : 281 Question Id : 48558433866 Question Type : MCQ Option Shuffling : No Is Question Mandatory : No Calculator : None Response Time : N.A Think Time : N.A Minimum Instruction Time : 0

Correct Marks : 5 Wrong Marks : 1

Question Key Details :

Key	Value
Comprehension	MCQ

Who among the following are allowed to practice law in India after the Advocates Act 1961?

- A. Barristers
- B. Advocates
- C. Advocate on Record
- D. Attorney General of India
- E. Pleaders

Choose the correct answer from the options given below:

1. A, B only
2. B, C only
3. C, D only
4. D, E only

Options :

485584135461. 1
485584135462. 2

485584135463. 3

485584135464. 4

Question Number : 281 Question Id : 48558433866 Question Type : MCQ Option Shuffling : No Is Question Mandatory : No Calculator : None Response Time : N.A Think Time : N.A Minimum Instruction Time : 0

Correct Marks : 5 Wrong Marks : 1

Question Key Details :

Key	Value
Comprehension	MCQ

निम्नलिखित में से किसे अधिवक्ता अधिनियम, 1961 के अन्तर्गत भारत में विधि व्यवसाय की अनुमति है?

- A. बैरिस्टर
- B. अधिवक्ता
- C. ऑन रिकार्ड अधिवक्ता
- D. भारत का महान्यायवादी
- E. अभिवक्ता

नीचे दिए गए विकल्पों में से सही उत्तर दीजिए :

- 1. केवल A, B
- 2. केवल B, C
- 3. केवल C, D
- 4. केवल D, E

Options :

485584135461. 1

485584135462. 2

485584135463. 3

485584135464. 4

Question Number : 282 Question Id : 48558433867 Question Type : MCQ Option Shuffling : No Is Question Mandatory : No Calculator : None Response Time : N.A Think Time : N.A Minimum Instruction Time : 0

Correct Marks : 5 Wrong Marks : 1

Question Key Details :

Key	Value
Comprehension	MCQ

Match List I with List II

LIST I		LIST II	
A.	14th Law Commission Report	I.	India became obliged to introduce free legal aid in domestic legislation
B.	Committee on Judicature	II.	Lok Adalat to be setup to promote free legal Aid
C.	Legal Services Authorities Act, 1987	III.	Promoted the idea of free Legal Aid
D.	Signing of ICCPR in 1976	IV.	Framework to provide free Legal aid prepared

Choose the correct answer from the options given below:

1. A-IV, B-I, C-III, D-II
2. A-I, B-II, C-IV, D-III
3. A-II, B-III, C-I, D-IV
4. A-III, B-IV, C-II, D-I

Options :

485584135465. 1
 485584135466. 2
 485584135467. 3
 485584135468. 4

Question Number : 282 Question Id : 48558433867 Question Type : MCQ Option Shuffling : No Is Question Mandatory : No Calculator : None Response Time : N.A Think Time : N.A Minimum Instruction Time : 0

Correct Marks : 5 Wrong Marks : 1

Question Key Details :

Key	Value
Comprehension	MCQ

सूची I का सूची II से मिलान कीजिए

सूची I		सूची II	
A.	14वां विधि आयोग प्रतिवेदन	I.	भारत घरेलू विधान में निशुल्क विधिक सहायता आरंभ करने के लिए बाध्य हुआ
B.	न्यायक्षेत्र संबंधी समिति	II.	निशुल्क विधिक सहायता को बढ़ावा देने के लिए लोक अदालतों की स्थापना
C.	विधिक सेवा प्राधिकरण एक्ट, 1987	III.	निशुल्क विधिक सहायता के विचार को बढ़ावा
D.	1976 में आईसीसीपीआर पर हस्ताक्षर	IV.	निशुल्क विधिक सहायता की रूपरेखा तैयार

निम्नलिखित विकल्पों में से सही उत्तर का चयन कीजिए :

1. A-IV, B-I, C-III, D-II
2. A-I, B-II, C-IV, D-III
3. A-II, B-III, C-I, D-IV
4. A-III, B-IV, C-II, D-I

Options :

485584135465. 1
485584135466. 2
485584135467. 3
485584135468. 4

Question Number : 283 Question Id : 48558433868 Question Type : MCQ Option Shuffling : No Is Question Mandatory : No Calculator : None Response Time : N.A Think Time : N.A Minimum Instruction Time : 0

Correct Marks : 5 Wrong Marks : 1

Question Key Details :

Key	Value
Comprehension	MCQ

Which international organisation was initially originated as International Bank for Reconstruction and Development (IBRD)?

1. International Monetary Fund
2. World Bank
3. Reserve Bank
4. Monetary Bank of world

Options :

485584135469. 1
485584135470. 2
485584135471. 3
485584135472. 4

Question Number : 283 Question Id : 48558433868 Question Type : MCQ Option Shuffling : No Is Question Mandatory : No Calculator : None Response Time : N.A Think Time : N.A Minimum Instruction Time : 0

Correct Marks : 5 Wrong Marks : 1

Question Key Details :

Key	Value
Comprehension	MCQ

किस अन्तरराष्ट्रीय संगठन की आरंभ में अन्तर्राष्ट्रीय पुनर्निर्माण और विकास बैंक (आईबीआरडी) के रूप में शुरुआत हुई थी?

1. अन्तर्राष्ट्रीय मौद्रिक संगठन (आईएमएफ)
2. विश्व बैंक
3. रिजर्व बैंक
4. विश्व का मौद्रिक बैंक

Options :

485584135469. 1
485584135470. 2
485584135471. 3
485584135472. 4

Question Number : 284 Question Id : 48558433869 Question Type : MCQ Option Shuffling : No Is Question Mandatory : No Calculator : None Response Time : N.A Think Time : N.A Minimum Instruction Time : 0

Correct Marks : 5 Wrong Marks : 1

Question Key Details :

Key	Value
Comprehension	MCQ

Arrange the following in order of establishment

- A. ILO
- B. UNESCO
- C. IMF
- D. WHO

Choose the correct answer from the options given below:

- 1. A - C - B - D
- 2. D - A - B - C
- 3. C - A - B - D
- 4. A - B - C - D

Options :

- 485584135473. 1
- 485584135474. 2
- 485584135475. 3
- 485584135476. 4

Question Number : 284 Question Id : 48558433869 Question Type : MCQ Option Shuffling : No Is Question Mandatory : No Calculator : None Response Time : N.A Think Time : N.A Minimum Instruction Time : 0

Correct Marks : 5 Wrong Marks : 1

Question Key Details :

Key	Value
Comprehension	MCQ

निम्नलिखित को स्थापना के क्रम में व्यवस्थित करें :

- A. आईएलओ
- B. यूनेस्को
- C. आईएमएफ
- D. डब्ल्यूएचओ

नीचे दिए गए विकल्पों में से सही उत्तर दीजिए :

- 1. A - C - B - D
- 2. D - A - B - C
- 3. C - A - B - D
- 4. A - B - C - D

Options :

485584135473. 1
485584135474. 2
485584135475. 3
485584135476. 4

Question Number : 285 Question Id : 48558433870 Question Type : MCQ Option Shuffling : No Is Question Mandatory : No Calculator : None Response Time : N.A Think Time : N.A Minimum Instruction Time : 0

Correct Marks : 5 Wrong Marks : 1

Question Key Details :

Key	Value
Comprehension	MCQ

Which of the following is not a method by which a state may express its consent to be bound by a particular treaty:-

1. Consent by signature
2. Consent by exchange of instruments
3. Consent by verbal assurance of Head of State
4. Consent by ratification

Options :

485584135477. 1
485584135478. 2
485584135479. 3
485584135480. 4

Question Number : 285 Question Id : 48558433870 Question Type : MCQ Option Shuffling : No Is Question Mandatory : No Calculator : None Response Time : N.A Think Time : N.A Minimum Instruction Time : 0

Correct Marks : 5 Wrong Marks : 1

Question Key Details :

Key	Value
Comprehension	MCQ

निम्नलिखित में से कौन-सी वह विधि नहीं है जिसके द्वारा कोई राज्य किसी विशेष संधि से बंधे होने की अपनी सहमति व्यक्त कर सकता है :-

1. हस्ताक्षर द्वारा सहमति
2. प्रपत्र विनिमय द्वारा सहमति
3. राज्यप्रमुख के मौखिक आश्वासन द्वारा सहमति
4. अनुसमर्थन द्वारा सहमति

Options :

485584135477. 1
485584135478. 2
485584135479. 3
485584135480. 4

Question Number : 286 Question Id : 48558433871 Question Type : MCQ Option Shuffling : No Is Question Mandatory : No Calculator : None Response Time : N.A Think Time : N.A Minimum Instruction Time : 0

Correct Marks : 5 Wrong Marks : 1

Question Key Details :

Key	Value
Comprehension	MCQ

Which of the following is a subsidiary source of International law according to Article 38(1) of ICJ statute?

1. International Conventions
2. International Customs
3. General Principles of International law
4. Teachings of most highly qualified Publicists

Options :

485584135481. 1

485584135482. 2

485584135483. 3

485584135484. 4

Question Number : 286 Question Id : 48558433871 Question Type : MCQ Option Shuffling : No Is Question Mandatory : No Calculator : None Response Time : N.A Think Time : N.A Minimum Instruction Time : 0

Correct Marks : 5 Wrong Marks : 1

Question Key Details :

Key	Value
Comprehension	MCQ

आईसीजे संविधि के अनुच्छेद 38(1) के अनुसार निम्नलिखित में से कौन-सा अन्तरराष्ट्रीय विधि का एक अनुषंगी स्रोत है?

1. अन्तरराष्ट्रीय अभिसमय
2. अन्तरराष्ट्रीय प्रथाएं
3. अन्तरराष्ट्रीय विधि के सामान्य सिद्धांत
4. अत्यधिक योग्य प्रचारकों की शिक्षाएं

Options :

485584135481. 1

485584135482. 2

485584135483. 3

485584135484. 4

Question Number : 287 Question Id : 48558433872 Question Type : MCQ Option Shuffling : No Is Question Mandatory : No Calculator : None Response Time : N.A Think Time : N.A Minimum Instruction Time : 0

Correct Marks : 5 Wrong Marks : 1

Question Key Details :

Key	Value
Comprehension	MCQ

Choose the correct chronological order of the following

- A. The Hague conference focuses on wide array of aspects of private law.
- B. India adopted the UNCITRAL.
- C. ILO was set up after the war, as a part of Treaty of Versailles
- D. Human Rights Council is working for human rights issues.

Choose the correct answer from the options given below:

- 1. B, C, A, D
- 2. A, C, B, D
- 3. D, A, B, C
- 4. B, D, A, C

Options :

- 485584135485. 1
- 485584135486. 2
- 485584135487. 3
- 485584135488. 4

Question Number : 287 Question Id : 48558433872 Question Type : MCQ Option Shuffling : No Is Question Mandatory : No Calculator : None Response Time : N.A Think Time : N.A Minimum Instruction Time : 0

Correct Marks : 5 Wrong Marks : 1

Question Key Details :

Key	Value
Comprehension	MCQ

निम्नलिखित का सही कालक्रमानुसार चयन करें :

- A. हेग सम्मेलन व्यक्तिगत विधि के विविध पहलुओं पर केंद्रित है।
- B. भारत ने UNCITRAL को अंगीकृत किया।
- C. वर्साय की संधि के भाग के रूप में, युद्ध के बाद आईएलओ स्थापित किया गया।
- D. मानवाधिकार परिषद मानवाधिकारों के लिए कार्यरत है।

नीचे दिए गए विकल्पों में से सही उत्तर दीजिए :

- 1. B, C, A, D
- 2. A, C, B, D
- 3. D, A, B, C
- 4. B, D, A, C

Options :

- 485584135485. 1
- 485584135486. 2
- 485584135487. 3
- 485584135488. 4

Question Number : 288 Question Id : 48558433873 Question Type : MCQ Option Shuffling : No Is Question Mandatory : No Calculator : None Response Time : N.A Think Time : N.A Minimum Instruction Time : 0

Correct Marks : 5 Wrong Marks : 1

Question Key Details :

Key	Value
Comprehension	MCQ

Article 59 of the statute of the ICJ states that except on parties to the dispute the decision of ICJ is

1. Not binding
2. binding on all states
3. based on consent of states
4. binding on Security Council

Options :

485584135489. 1
485584135490. 2
485584135491. 3
485584135492. 4

Question Number : 288 Question Id : 48558433873 Question Type : MCQ Option Shuffling : No Is Question Mandatory : No Calculator : None Response Time : N.A Think Time : N.A Minimum Instruction Time : 0

Correct Marks : 5 Wrong Marks : 1

Question Key Details :

Key	Value
Comprehension	MCQ

आईसीजे की संविधि का अनुच्छेद 39 कहता है कि आईसीजे के निर्णय केवल विवाद के पक्षकारों पर ही _____ होंगे।

1. अबाध्यकारी
2. सभी राज्यों पर बाध्यकारी
3. राज्य की सहमति पर आधारित
4. सुरक्षा परिषद पर बाध्यकारी

Options :

485584135489. 1
485584135490. 2
485584135491. 3
485584135492. 4

Question Number : 289 Question Id : 48558433874 Question Type : MCQ Option Shuffling : No Is Question Mandatory : No Calculator : None Response Time : N.A Think Time : N.A Minimum Instruction Time : 0

Correct Marks : 5 Wrong Marks : 1

Question Key Details :

Key	Value
Comprehension	MCQ

Match List I with List II

LIST I		LIST II	
A.	<i>Injuria Sine Damnum</i>	I.	Where there is right there is remedy
B.	<i>Bona fide</i>	II.	Let the buyer beware
C.	<i>Caveat Emptor</i>	III.	Injury without damage
D.	<i>Ubi Jus Ibi Remedium</i>	IV.	Good faith

Choose the correct answer from the options given below:

1. A-III, B-IV, C-II, D-I
2. A-I, B-II, C-III, D-IV
3. A-IV, B-III, C-I, D-II
4. A-I, B-IV, C-II, D-III

Options :

485584135493. 1
485584135494. 2
485584135495. 3
485584135496. 4

Question Number : 289 Question Id : 48558433874 Question Type : MCQ Option Shuffling : No Is Question Mandatory : No Calculator : None Response Time : N.A Think Time : N.A Minimum Instruction Time : 0

Correct Marks : 5 Wrong Marks : 1

Question Key Details :

Key	Value
Comprehension	MCQ

सूची I को सूची II से सुमेलित कीजिए

सूची I		सूची II	
A.	<i>इंज्यूरिया सिने डमनम</i>	I.	जहाँ अधिकार है, वहाँ उपचार है
B.	<i>बोना फाइड</i>	II.	क्रेता सावधान रहे
C.	<i>कैविएट इंपटर</i>	III.	क्षति के बिना चोट
D.	<i>यूबी ज्यूस इबी रीमिडियम</i>	IV.	अच्छे विश्वास में

नीचे दिए गए विकल्पों में से सही उत्तर दीजिए :

1. A-III, B-IV, C-II, D-I
2. A-I, B-II, C-III, D-IV
3. A-IV, B-III, C-I, D-II
4. A-I, B-IV, C-II, D-III

Options :

485584135493. 1
485584135494. 2
485584135495. 3
485584135496. 4

Question Number : 290 Question Id : 48558433875 Question Type : MCQ Option Shuffling : No Is Question Mandatory : No Calculator : None Response Time : N.A Think Time : N.A Minimum Instruction Time : 0

Correct Marks : 5 Wrong Marks : 1

Question Key Details :

Key	Value
Comprehension	MCQ

What is the meaning of the legal Maxim '*Ignorantia Facti Excusat- Ignorantia Juris Non Excusat*'

1. Ignorance of law is an excuse
2. Ignorance of law of fact is not an excuse
3. Ignorance of fact is an excuse but ignorance of law is not an excuse
4. Ignorance of fact is not an excuse

Options :

485584135497. 1
485584135498. 2
485584135499. 3
485584135500. 4

Question Number : 290 Question Id : 48558433875 Question Type : MCQ Option Shuffling : No Is Question Mandatory : No Calculator : None Response Time : N.A Think Time : N.A Minimum Instruction Time : 0

Correct Marks : 5 Wrong Marks : 1

Question Key Details :

Key	Value
Comprehension	MCQ

विधिक कहावत "इग्नोरेंशिया फैम्टी एम्सुसेट-इग्नोरेंशिया ज्यूरिस नॉन एम्सुसेट" का अर्थ है :-

1. विधि की अज्ञानता, माफी का आधार है।
2. विधि के तथ्य की अज्ञानता माफी का आधार नहीं है।
3. तथ्य कीई अज्ञानता माफी योग्य है परन्तु विधि की अज्ञानता माफी योग्य नहीं है।
4. तथ्य की अज्ञानता माफी का आधार नहीं है।

Options :

485584135497. 1
485584135498. 2
485584135499. 3
485584135500. 4

Sub-Section Number :

2

Sub-Section Id :

4855842432

Question Shuffling Allowed :

No

Is Section Default? :

null

Question Number : 291 Question Id : 48558433876 Question Type : MCQ Option Shuffling : No Is Question Mandatory : No Calculator : None Response Time : N.A Think Time : N.A Minimum Instruction Time : 0

Correct Marks : 5 Wrong Marks : 1

Question Key Details :

Key	Value
Comprehension	Comp1

Read the passage and answer the following questions:-

"In 2010, the National Legal Services Authority of India (NALSA) adopted the National Legal Service Authority (Free and Competent Legal Services) Regulations in exercise of its power under Section 29 of Legal Service Authorities Act, 1987. The regulations are applicable to Legal Service Committees of the Supreme Court, High Courts, the States, districts and taluks. The legal service institution is vested with authority to invite applications from legal practitioners with requisite experience to indicate the type of cases they are entrusted with."

To be part of panel of lawyers to provide legal aid, the practioner should have

1. 3 or more years experience at bar
2. less than 3 years experience at bar
3. 5 years experience at bar
4. 10 years experience at bar

Options :

485584135501. 1
 485584135502. 2
 485584135503. 3
 485584135504. 4

Question Number : 291 Question Id : 48558433876 Question Type : MCQ Option Shuffling : No Is Question Mandatory : No Calculator : None Response Time : N.A Think Time : N.A Minimum Instruction Time : 0

Correct Marks : 5 Wrong Marks : 1

Question Key Details :

Key	Value
Comprehension	Comp1

निम्नलिखित पैराग्राफ को पढ़ें और प्रश्न (41-45) का उत्तर दीजिए :-

“2010 में भारतीय राष्ट्र विधिक सेवा प्राधिकरण (नालसा) ने विधिक सेवा प्राधिकरण एक्ट 1987 की धारा 29 के अन्तर्गत अपनी शक्ति के अनुप्रयोग में राष्ट्रीय विधिक सेवा प्राधिकरण (निशुल्क और सक्षम वित्तीय सेवाएं) विनियम अंगीकृत किए। विनियम उच्चतम न्यायालय, उच्च न्यायालय, राज्यों, जिला और तालुकों की विधिक सेवा समिति पर लागू होते हैं। विधिक सेवा संस्थान को आवश्यक अनुभव वाले विधिक व्यवसायियों से उनके द्वारा निर्वहन किए जाने वाले केसों के प्रकार दर्शाने वाले आवेदन आमंत्रित करने का प्राधिकार प्राप्त है।

विधिक सेवा प्रदान करने के लिए वकीलों की तालिका का भाग होने के लिए विधि व्यवसायी के पास निम्नलिखित में से क्या होना चाहिए :-

1. बार में 3 या अधिक वर्षों का अनुभव
2. बार में 3 वर्षों से कम का अनुभव
3. बार में 5 वर्ष का अनुभव
4. बार में 10 वर्ष का अनुभव

Options :

485584135501. 1
485584135502. 2
485584135503. 3
485584135504. 4

Question Number : 292 Question Id : 48558433877 Question Type : MCQ Option Shuffling : No Is Question Mandatory : No Calculator : None Response Time : N.A Think Time : N.A Minimum Instruction Time : 0

Correct Marks : 5 Wrong Marks : 1

Question Key Details :

Key	Value
Comprehension	Compl

Read the passage and answer the following questions:-

"In 2010, the National Legal Services Authority of India (NALSA) adopted the National Legal Service Authority (Free and Competent Legal Services) Regulations in exercise of its power under Section 29 of Legal Service Authorities Act, 1987. The regulations are applicable to Legal Service Committees of the Supreme Court, High Courts, the States, districts and taluks. The legal service institution is vested with authority to invite applications from legal practitioners with requisite experience to indicate the type of cases they are entrusted with."

Panel of legal aid lawyers is reconstituted

1. every year
2. every three years
3. every 5 years
4. every 2 years

Options :

485584135505. 1
485584135506. 2
485584135507. 3
485584135508. 4

Question Number : 292 Question Id : 48558433877 Question Type : MCQ Option Shuffling : No Is Question Mandatory : No Calculator : None Response Time : N.A Think Time : N.A Minimum Instruction Time : 0

Correct Marks : 5 Wrong Marks : 1

Question Key Details :

Key	Value
Comprehension	Compl

निम्नलिखित पैराग्राफ को पढ़ें और प्रश्न (41-45) का उत्तर दीजिए :-

“2010 में भारतीय राष्ट्र विधिक सेवा प्राधिकरण (नालसा) ने विधिक सेवा प्राधिकरण एक्ट 1987 की धारा 29 के अन्तर्गत अपनी शक्ति के अनुप्रयोग में राष्ट्रीय विधिक सेवा प्राधिकरण (निशुल्क और सक्षम वित्तीय सेवाएं) विनियम अंगीकृत किए। विनियम उच्चतम न्यायालय, उच्च न्यायालय, राज्यों, जिला और तालुकों की विधिक सेवा समिति पर लागू होते हैं। विधिक सेवा संस्थान को आवश्यक अनुभव वाले विधिक व्यवसायियों से उनके द्वारा निर्वहन किए जाने वाले केसों के प्रकार दर्शाने वाले आवेदन आमंत्रित करने का प्राधिकार प्राप्त है।

विधिक सहायता वकीलों की तालिका पुनर्गठित होती है :

1. प्रति वर्ष
2. प्रत्येक 3 वर्ष
3. प्रत्येक 5 वर्ष
4. प्रत्येक 2 वर्ष

Options :

485584135505. 1
485584135506. 2
485584135507. 3
485584135508. 4

Question Number : 293 Question Id : 48558433878 Question Type : MCQ Option Shuffling : No Is Question Mandatory : No Calculator : None Response Time : N.A Think Time : N.A Minimum Instruction Time : 0

Correct Marks : 5 Wrong Marks : 1

Question Key Details :

Key	Value
Comprehension	Compl

Read the passage and answer the following questions:-

"In 2010, the National Legal Services Authority of India (NALSA) adopted the National Legal Service Authority (Free and Competent Legal Services) Regulations in exercise of its power under Section 29 of Legal Service Authorities Act, 1987. The regulations are applicable to Legal Service Committees of the Supreme Court, High Courts, the States, districts and taluks. The legal service institution is vested with authority to invite applications from legal practitioners with requisite experience to indicate the type of cases they are entrusted with."

For legal aid, services of senior lawyers can be availed only in

1. Murder cases
2. where there is threat to life and liberty of the applicant
3. financial matter
4. court martial

Options :

485584135509. 1
485584135510. 2
485584135511. 3
485584135512. 4

Question Number : 293 Question Id : 48558433878 Question Type : MCQ Option Shuffling : No Is Question Mandatory : No Calculator : None Response Time : N.A Think Time : N.A Minimum Instruction Time : 0

Correct Marks : 5 Wrong Marks : 1

Question Key Details :

Key	Value
Comprehension	Comp1

निम्नलिखित पैराग्राफ को पढ़ें और प्रश्न (41-45) का उत्तर दीजिए :-

“2010 में भारतीय राष्ट्र विधिक सेवा प्राधिकरण (नालसा) ने विधिक सेवा प्राधिकरण एक्ट 1987 की धारा 29 के अन्तर्गत अपनी शक्ति के अनुप्रयोग में राष्ट्रीय विधिक सेवा प्राधिकरण (निशुल्क और सक्षम वित्तीय सेवाएं) विनियम अंगीकृत किए। विनियम उच्चतम न्यायालय, उच्च न्यायालय, राज्यों, जिला और तालुकों की विधिक सेवा समिति पर लागू होते हैं। विधिक सेवा संस्थान को आवश्यक अनुभव वाले विधिक व्यवसायियों से उनके द्वारा निर्वहन किए जाने वाले केसों के प्रकार दर्शाने वाले आवेदन आमंत्रित करने का प्राधिकार प्राप्त है।

विधिक सहायता के लिए वरिष्ठ वकीलों की सेवाएं केवल किन मामलों में प्राप्त की जा सकती है :

1. हत्या मामले
2. जहाँ आवेदक के जीवन और स्वतंत्रता को खतरा है
3. वित्तीय मामले
4. कोर्ट मार्शल

Options :

485584135509. 1
485584135510. 2
485584135511. 3
485584135512. 4

Question Number : 294 Question Id : 48558433879 Question Type : MCQ Option Shuffling : No Is Question Mandatory : No Calculator : None Response Time : N.A Think Time : N.A Minimum Instruction Time : 0

Correct Marks : 5 Wrong Marks : 1

Question Key Details :

Key	Value
-----	-------

Read the passage and answer the following questions:-

"In 2010, the National Legal Services Authority of India (NALSA) adopted the National Legal Service Authority (Free and Competent Legal Services) Regulations in exercise of its power under Section 29 of Legal Service Authorities Act, 1987. The regulations are applicable to Legal Service Committees of the Supreme Court, High Courts, the States, districts and taluks. The legal service institution is vested with authority to invite applications from legal practitioners with requisite experience to indicate the type of cases they are entrusted with."

Panel lawyers are paid fee in accordance with

1. State regulations
2. BCI norms
3. Central government scale
4. UGC norms

Options :

485584135513. 1
485584135514. 2
485584135515. 3
485584135516. 4

Question Number : 294 Question Id : 48558433879 Question Type : MCQ Option Shuffling : No Is Question Mandatory : No Calculator : None Response Time : N.A Think Time : N.A Minimum Instruction Time : 0

Correct Marks : 5 Wrong Marks : 1

Question Key Details :

Key	Value
Comprehension	Comp1

निम्नलिखित पैराग्राफ को पढ़ें और प्रश्न (41-45) का उत्तर दीजिए :-

“2010 में भारतीय राष्ट्र विधिक सेवा प्राधिकरण (नालसा) ने विधिक सेवा प्राधिकरण एक्ट 1987 की धारा 29 के अन्तर्गत अपनी शक्ति के अनुप्रयोग में राष्ट्रीय विधिक सेवा प्राधिकरण (निशुल्क और सक्षम वित्तीय सेवाएं) विनियम अंगीकृत किए। विनियम उच्चतम न्यायालय, उच्च न्यायालय, राज्यों, जिला और तालुकों की विधिक सेवा समिति पर लागू होते हैं। विधिक सेवा संस्थान को आवश्यक अनुभव वाले विधिक व्यवसायियों से उनके द्वारा निर्वहन किए जाने वाले केसों के प्रकार दर्शाने वाले आवेदन आमंत्रित करने का प्राधिकार प्राप्त है।

तालिका वकीलों को निम्नलिखित के अनुसार फीस प्रदान की जाती है?

1. राज्य विनियम
2. बीसीआई मानक
3. केंद्रीय सरकार
4. यूजीसी मानक

Options :

- 485584135513. 1
- 485584135514. 2
- 485584135515. 3
- 485584135516. 4

Question Number : 295 Question Id : 48558433880 Question Type : MCQ Option Shuffling : No Is Question Mandatory : No Calculator : None Response Time : N.A Think Time : N.A Minimum Instruction Time : 0

Correct Marks : 5 Wrong Marks : 1

Question Key Details :

Key	Value
Comprehension	Comp1

Read the passage and answer the following questions:-

"In 2010, the National Legal Services Authority of India (NALSA) adopted the National Legal Service Authority (Free and Competent Legal Services) Regulations in exercise of its power under Section 29 of Legal Service Authorities Act, 1987. The regulations are applicable to Legal Service Committees of the Supreme Court, High Courts, the States, districts and taluks. The legal service institution is vested with authority to invite applications from legal practitioners with requisite experience to indicate the type of cases they are entrusted with."

Pre-litigation legal services include:

1. Legal education
2. Arbitration
3. Out of court settlement
4. appearance before judge

Options :

- 485584135517. 1
- 485584135518. 2
- 485584135519. 3
- 485584135520. 4

Question Number : 295 Question Id : 48558433880 Question Type : MCQ Option Shuffling : No Is Question Mandatory : No Calculator : None Response Time : N.A Think Time : N.A Minimum Instruction Time : 0

Correct Marks : 5 Wrong Marks : 1

Question Key Details :

Key	Value
Comprehension	Comp1

निम्नलिखित पैराग्राफ को पढ़ें और प्रश्न (41-45) का उत्तर दीजिए :-

“2010 में भारतीय राष्ट्र विधिक सेवा प्राधिकरण (नालसा) ने विधिक सेवा प्राधिकरण एक्ट 1987 की धारा 29 के अन्तर्गत अपनी शक्ति के अनुप्रयोग में राष्ट्रीय विधिक सेवा प्राधिकरण (निशुल्क और सक्षम वित्तीय सेवाएं) विनियम अंगीकृत किए। विनियम उच्चतम न्यायालय, उच्च न्यायालय, राज्यों, जिला और तालुकों की विधिक सेवा समिति पर लागू होते हैं। विधिक सेवा संस्थान को आवश्यक अनुभव वाले विधिक व्यवसायियों से उनके द्वारा निर्वहन किए जाने वाले केसों के प्रकार दर्शाने वाले आवेदन आमंत्रित करने का प्राधिकार प्राप्त है।

वाद-पूर्व विधिक सेवाओं में सम्मिलित है :

1. विधिक शिक्षा
2. माध्यस्थता
3. न्यायालय के बाहर निपटारा
4. न्यायधीश के समक्ष प्रस्तुति

Options :

485584135517. 1

485584135518. 2

485584135519. 3

485584135520. 4

Sub-Section Number :

3

Sub-Section Id :

4855842433

Question Shuffling Allowed :

No

Is Section Default? :

null

Question Number : 296 Question Id : 48558433881 Question Type : MCQ Option Shuffling : No Is Question Mandatory : No Calculator : None Response Time : N.A Think Time : N.A Minimum Instruction Time : 0

Correct Marks : 5 Wrong Marks : 1

Question Key Details :

Key	Value
Comprehension	Comp2

The quasi-judicial bodies typically are public administrative agencies under the realm of the executive branch and are largely bestowed with authority similar to courts. These bodies have the power to resolve disputes and also impose punishments. Examples of quasi-judicial institutions include, national and state human rights commissions, consumer redressal forums and commissions, income tax tribunals, and so on. Some of these bodies relating specifically to human rights institutions that include, the National Human Rights Commission, National Commission for Minorities, National Commission for Women, National Commission for Scheduled Castes and the National Commission for Scheduled Tribes. These commissions are independent or autonomous and transparent bodies that are created under specific legislations to promote and protect human rights; for example, the National and State Human Rights Commissions are governed by the Protection of Human Rights Act, 1993. National commissions have jurisdiction over the entire nation and the parallel state commission take matters of human rights violations from the respective states.

The functioning of Quasi judicial bodies is similar to

1. Parliament
2. Judges
3. Magistrate
4. Courts

Options :

485584135521. 1
485584135522. 2
485584135523. 3
485584135524. 4

Question Number : 296 Question Id : 48558433881 Question Type : MCQ Option Shuffling : No Is Question Mandatory : No Calculator : None Response Time : N.A Think Time : N.A Minimum Instruction Time : 0

Correct Marks : 5 Wrong Marks : 1

Question Key Details :

Key	Value
Comprehension	Comp2

निम्नलिखित पैराग्राफ को पढ़ें और प्रश्न (46-50) का उत्तर दीजिए :-

अर्द्ध-न्यायिक निकाय सामान्यतया कार्यकारी शाखा के क्षेत्र के अन्तर्गत लोक प्रशासनिक अभिकरण हैं तथा मुख्यतया उन्हें न्यायलयों के समान प्राधिकार ही सौंपे गये हैं। इन निकायों के पास विवादों के समाधान और दण्ड आरोपित करने कीई शक्ति है। अर्द्ध-न्यायिक निकायों के उदाहरणों में राष्ट्रीय और राज्य मानवाधिकार आयोग, आयकर प्राधिकरण आदि सम्मिलित हैं। इनमें से कुछ निकाय विशिष्टतया मानवाधिकार संस्थानों से संबंधित हैं जिनमें राष्ट्रीय मानवाधिकार आयोग, राष्ट्रीय अल्पसंख्यक आयोग, राष्ट्रीय महिला आयोग, राष्ट्रीय अनुसूचित जाति आयोग और राष्ट्रीय अनुसूचित जनजाति आयोग सम्मिलित है। यह आयोग स्वतंत्र या स्वायत्त और पारदर्शी निकाय हैं जो मानवाधिकारों को बढ़ावा देने और उनके संरक्षण के लिए विशिष्ट विधानों के अन्तर्गत बनाए गए हैं; उदाहरण के लिए राष्ट्रीय और राज्य मानवाधिकार आयोग, मानवाधिकार संरक्षण अधिनियम, 1993 द्वारा अभिशासित होते हैं। राष्ट्रीय आयोगों का न्यायक्षेत्र सम्पूर्ण राष्ट्र पर होता है तथा समानांतर राज्य आयोग संबंधित राज्यों से मानवाधिकार उल्लंघनों के मामले देखते हैं।

अर्द्ध न्यायिक निकायों का कार्यकरण किसके समान है :

1. संसद
2. न्यायाधीश
3. मजिस्ट्रेट
4. न्यायालय

Options :

485584135521. 1
485584135522. 2
485584135523. 3
485584135524. 4

Question Number : 297 Question Id : 48558433882 Question Type : MCQ Option Shuffling : No Is Question Mandatory : No Calculator : None Response Time : N.A Think Time : N.A Minimum Instruction Time : 0

Correct Marks : 5 Wrong Marks : 1

Question Key Details :

Key	Value
Comprehension	Comp2

The quasi-judicial bodies typically are public administrative agencies under the realm of the executive branch and are largely bestowed with authority similar to courts. These bodies have the power to resolve disputes and also impose punishments. Examples of quasi-judicial institutions include, national and state human rights commissions, consumer redressal forums and commissions, income tax tribunals, and so on. Some of these bodies relating specifically to human rights institutions that include, the National Human Rights Commission, National Commission for Minorities, National Commission for Women, National Commission for Scheduled Castes and the National Commission for Scheduled Tribes. These commissions are independent or autonomous and transparent bodies that are created under specific legislations to promote and protect human rights; for example, the National and State Human Rights Commissions are governed by the Protection of Human Rights Act, 1993. National commissions have jurisdiction over the entire nation and the parallel state commission take matters of human rights violations from the respective states.

Which one of the following is not a Quasi judicial body

1. Human Rights Commission
2. Consumer Forums
3. Income Tax Tribunals
4. Parliament

Options :

- 485584135525. 1
- 485584135526. 2
- 485584135527. 3
- 485584135528. 4

Question Number : 297 Question Id : 48558433882 Question Type : MCQ Option Shuffling : No Is Question Mandatory : No Calculator : None Response Time : N.A Think Time : N.A Minimum Instruction Time : 0

Correct Marks : 5 Wrong Marks : 1

Question Key Details :

Key	Value
Comprehension	Comp2

निम्नलिखित पैराग्राफ को पढ़ें और प्रश्न (46-50) का उत्तर दीजिए :-

अर्द्ध-न्यायिक निकाय सामान्यतया कार्यकारी शाखा के क्षेत्र के अन्तर्गत लोक प्रशासनिक अभिकरण हैं तथा मुख्यतया उन्हें न्यायलयों के समान प्राधिकार ही सौंपे गये हैं। इन निकायों के पास विवादों के समाधान और दण्ड आरोपित करने कीई शक्ति है। अर्द्ध-न्यायिक निकायों के उदाहरणों में राष्ट्रीय और राज्य मानवाधिकार आयोग, आयकर प्राधिकरण आदि सम्मिलित हैं। इनमें से कुछ निकाय विशिष्टतया मानवाधिकार संस्थानों से संबंधित हैं जिनमें राष्ट्रीय मानवाधिकार आयोग, राष्ट्रीय अल्पसंख्यक आयोग, राष्ट्रीय महिला आयोग, राष्ट्रीय अनुसूचित जाति आयोग और राष्ट्रीय अनुसूचित जनजाति आयोग सम्मिलित है। यह आयोग स्वतंत्र या स्वायत्त और पारदर्शी निकाय हैं जो मानवाधिकारों को बढ़ावा देने और उनके संरक्षण के लिए विशिष्ट विधानों के अन्तर्गत बनाए गए हैं; उदाहरण के लिए राष्ट्रीय और राज्य मानवाधिकार आयोग, मानवाधिकार संरक्षण अधिनियम, 1993 द्वारा अभिशासित होते हैं। राष्ट्रीय आयोगों का न्यायक्षेत्र सम्पूर्ण राष्ट्र पर होता है तथा समानांतर राज्य आयोग संबंधित राज्यों से मानवाधिकार उल्लंघनों के मामले देखते हैं।

निम्नलिखित में से कौन-सा अर्द्ध न्यायिक निकाय नहीं है?

1. मानवाधिकार आयोग
2. उपभोक्ता मंच
3. आयकर प्राधिकरण
4. संसद

Options :

485584135525. 1
485584135526. 2
485584135527. 3
485584135528. 4

Question Number : 298 Question Id : 48558433883 Question Type : MCQ Option Shuffling : No Is Question Mandatory : No Calculator : None Response Time : N.A Think Time : N.A Minimum Instruction Time : 0

Correct Marks : 5 Wrong Marks : 1

Question Key Details :

Key	Value
Comprehension	Comp2

The quasi-judicial bodies typically are public administrative agencies under the realm of the executive branch and are largely bestowed with authority similar to courts. These bodies have the power to resolve disputes and also impose punishments. Examples of quasi-judicial institutions include, national and state human rights commissions, consumer redressal forums and commissions, income tax tribunals, and so on. Some of these bodies relating specifically to human rights institutions that include, the National Human Rights Commission, National Commission for Minorities, National Commission for Women, National Commission for Scheduled Castes and the National Commission for Scheduled Tribes. These commissions are independent or autonomous and transparent bodies that are created under specific legislations to promote and protect human rights; for example, the National and State Human Rights Commissions are governed by the Protection of Human Rights Act, 1993. National commissions have jurisdiction over the entire nation and the parallel state commission take matters of human rights violations from the respective states.

The National Human Rights Commission is enacted to protect

1. Geographical Rights
2. Human Rights
3. Patent Rights
4. Copyright Rights

Options :

485584135529. 1
485584135530. 2
485584135531. 3
485584135532. 4

Question Number : 298 Question Id : 48558433883 Question Type : MCQ Option Shuffling : No Is Question Mandatory : No Calculator : None Response Time : N.A Think Time : N.A Minimum Instruction Time : 0

Correct Marks : 5 Wrong Marks : 1

Question Key Details :

Key	Value
Comprehension	Comp2

निम्नलिखित पैराग्राफ को पढ़ें और प्रश्न (46-50) का उत्तर दीजिए :-

अर्द्ध-न्यायिक निकाय सामान्यतया कार्यकारी शाखा के क्षेत्र के अन्तर्गत लोक प्रशासनिक अभिकरण हैं तथा मुख्यतया उन्हें न्यायलयों के समान प्राधिकार ही सौंपे गये हैं। इन निकायों के पास विवादों के समाधान और दण्ड आरोपित करने कीई शक्ति है। अर्द्ध-न्यायिक निकायों के उदाहरणों में राष्ट्रीय और राज्य मानवाधिकार आयोग, आयकर प्राधिकरण आदि सम्मिलित हैं। इनमें से कुछ निकाय विशिष्टतया मानवाधिकार संस्थानों से संबंधित हैं जिनमें राष्ट्रीय मानवाधिकार आयोग, राष्ट्रीय अल्पसंख्यक आयोग, राष्ट्रीय महिला आयोग, राष्ट्रीय अनुसूचित जाति आयोग और राष्ट्रीय अनुसूचित जनजाति आयोग सम्मिलित है। यह आयोग स्वतंत्र या स्वायत्त और पारदर्शी निकाय हैं जो मानवाधिकारों को बढ़ावा देने और उनके संरक्षण के लिए विशिष्ट विधानों के अन्तर्गत बनाए गए हैं; उदाहरण के लिए राष्ट्रीय और राज्य मानवाधिकार आयोग, मानवाधिकार संरक्षण अधिनियम, 1993 द्वारा अभिशासित होते हैं। राष्ट्रीय आयोगों का न्यायक्षेत्र सम्पूर्ण राष्ट्र पर होता है तथा समानांतर राज्य आयोग संबंधित राज्यों से मानवाधिकार उल्लंघनों के मामले देखते हैं।

राष्ट्रीय मानवाधिकार आयोग का गठन किसके संरक्षण के लिए हुआ है :

1. भौगोलिक अधिकार
2. मानवाधिकार
3. पेटेंट अधिकार
4. प्रतिलिप्याधिकार

Options :

485584135529. 1
485584135530. 2
485584135531. 3
485584135532. 4

Question Number : 299 Question Id : 48558433884 Question Type : MCQ Option Shuffling : No Is Question Mandatory : No Calculator : None Response Time : N.A Think Time : N.A Minimum Instruction Time : 0

Correct Marks : 5 Wrong Marks : 1

Question Key Details :

Key	Value
Comprehension	Comp2

The quasi-judicial bodies typically are public administrative agencies under the realm of the executive branch and are largely bestowed with authority similar to courts. These bodies have the power to resolve disputes and also impose punishments. Examples of quasi-judicial institutions include, national and state human rights commissions, consumer redressal forums and commissions, income tax tribunals, and so on. Some of these bodies relating specifically to human rights institutions that include, the National Human Rights Commission, National Commission for Minorities, National Commission for Women, National Commission for Scheduled Castes and the National Commission for Scheduled Tribes. These commissions are independent or autonomous and transparent bodies that are created under specific legislations to promote and protect human rights; for example, the National and State Human Rights Commissions are governed by the Protection of Human Rights Act, 1993. National commissions have jurisdiction over the entire nation and the parallel state commission take matters of human rights violations from the respective states.

The State Human Rights Commission is subordinate to

1. Competition Commission of India
2. Supreme Court of India
3. High Court of the state
4. National Human Rights Commission

Options :

- 485584135533. 1
- 485584135534. 2
- 485584135535. 3
- 485584135536. 4

Question Number : 299 Question Id : 48558433884 Question Type : MCQ Option Shuffling : No Is Question Mandatory : No Calculator : None Response Time : N.A Think Time : N.A Minimum Instruction Time : 0

Correct Marks : 5 Wrong Marks : 1

Question Key Details :

Key	Value
Comprehension	Comp2

निम्नलिखित पैराग्राफ को पढ़ें और प्रश्न (46-50) का उत्तर दीजिए :-

अर्द्ध-न्यायिक निकाय सामान्यतया कार्यकारी शाखा के क्षेत्र के अन्तर्गत लोक प्रशासनिक अभिकरण हैं तथा मुख्यतया उन्हें न्यायलयों के समान प्राधिकार ही सौंपे गये हैं। इन निकायों के पास विवादों के समाधान और दण्ड आरोपित करने कीई शक्ति है। अर्द्ध-न्यायिक निकायों के उदाहरणों में राष्ट्रीय और राज्य मानवाधिकार आयोग, आयकर प्राधिकरण आदि सम्मिलित हैं। इनमें से कुछ निकाय विशिष्टतया मानवाधिकार संस्थानों से संबंधित हैं जिनमें राष्ट्रीय मानवाधिकार आयोग, राष्ट्रीय अल्पसंख्यक आयोग, राष्ट्रीय महिला आयोग, राष्ट्रीय अनुसूचित जाति आयोग और राष्ट्रीय अनुसूचित जनजाति आयोग सम्मिलित है। यह आयोग स्वतंत्र या स्वायत्त और पारदर्शी निकाय हैं जो मानवाधिकारों को बढ़ावा देने और उनके संरक्षण के लिए विशिष्ट विधानों के अन्तर्गत बनाए गए हैं; उदाहरण के लिए राष्ट्रीय और राज्य मानवाधिकार आयोग, मानवाधिकार संरक्षण अधिनियम, 1993 द्वारा अभिशासित होते हैं। राष्ट्रीय आयोगों का न्यायक्षेत्र सम्पूर्ण राष्ट्र पर होता है तथा समानांतर राज्य आयोग संबंधित राज्यों से मानवाधिकार उल्लंघनों के मामले देखते हैं।

राज्य मानवाधिकार आयोग किसके अधीनस्थ है :

1. भारतीय प्रतिस्पर्धा आयोग
2. भारत कृअ उच्चतम न्यायालय
3. राज्य का उच्च न्यायालय
4. राष्ट्रीय मानवाधिकार आयोग

Options :

485584135533. 1
485584135534. 2
485584135535. 3
485584135536. 4

Question Number : 300 Question Id : 48558433885 Question Type : MCQ Option Shuffling : No Is Question Mandatory : No Calculator : None Response Time : N.A Think Time : N.A Minimum Instruction Time : 0

Correct Marks : 5 Wrong Marks : 1

Question Key Details :

Key	Value
Comprehension	Comp2

The quasi-judicial bodies typically are public administrative agencies under the realm of the executive branch and are largely bestowed with authority similar to courts. These bodies have the power to resolve disputes and also impose punishments. Examples of quasi-judicial institutions include, national and state human rights commissions, consumer redressal forums and commissions, income tax tribunals, and so on. Some of these bodies relating specifically to human rights institutions that include, the National Human Rights Commission, National Commission for Minorities, National Commission for Women, National Commission for Scheduled Castes and the National Commission for Scheduled Tribes. These commissions are independent or autonomous and transparent bodies that are created under specific legislations to promote and protect human rights; for example, the National and State Human Rights Commissions are governed by the Protection of Human Rights Act, 1993. National commissions have jurisdiction over the entire nation and the parallel state commission take matters of human rights violations from the respective states.

The National and State Human Rights Commission are governed under _____.

1. Environment Protection Act, 1986
2. Protection of Human Rights Act, 1993
3. Consumer of Protection Act, 2019
4. Protection of Civil Rights Act, 1955

Options :

485584135537. 1
485584135538. 2
485584135539. 3
485584135540. 4

Question Number : 300 Question Id : 48558433885 Question Type : MCQ Option Shuffling : No Is Question Mandatory : No Calculator : None Response Time : N.A Think Time : N.A Minimum Instruction Time : 0

Correct Marks : 5 Wrong Marks : 1

Question Key Details :

Key	Value
Comprehension	Comp2

निम्नलिखित पैराग्राफ को पढ़ें और प्रश्न (46-50) का उत्तर दीजिए :-

अर्द्ध-न्यायिक निकाय सामान्यतया कार्यकारी शाखा के क्षेत्र के अन्तर्गत लोक प्रशासनिक अभिकरण हैं तथा मुख्यतया उन्हें न्यायलयों के समान प्राधिकार ही सौंपे गये हैं। इन निकायों के पास विवादों के समाधान और दण्ड आरोपित करने कीई शक्ति है। अर्द्ध-न्यायिक निकायों के उदाहरणों में राष्ट्रीय और राज्य मानवाधिकार आयोग, आयकर प्राधिकरण आदि सम्मिलित हैं। इनमें से कुछ निकाय विशिष्टतया मानवाधिकार संस्थानों से संबंधित हैं जिनमें राष्ट्रीय मानवाधिकार आयोग, राष्ट्रीय अल्पसंख्यक आयोग, राष्ट्रीय महिला आयोग, राष्ट्रीय अनुसूचित जाति आयोग और राष्ट्रीय अनुसूचित जनजाति आयोग सम्मिलित है। यह आयोग स्वतंत्र या स्वायत्त और पारदर्शी निकाय हैं जो मानवाधिकारों को बढ़ावा देने और उनके संरक्षण के लिए विशिष्ट विधानों के अन्तर्गत बनाए गए हैं; उदाहरण के लिए राष्ट्रीय और राज्य मानवाधिकार आयोग, मानवाधिकार संरक्षण अधिनियम, 1993 द्वारा अभिशासित होते हैं। राष्ट्रीय आयोगों का न्यायक्षेत्र सम्पूर्ण राष्ट्र पर होता है तथा समानांतर राज्य आयोग संबंधित राज्यों से मानवाधिकार उल्लंघनों के मामले देखते हैं।

राष्ट्रीय और राज्य मानवाधिकार आयोग _____।

1. पर्यावरण संरक्षण अधिनियम, 1886
2. मानवाधिकार संरक्षण अधिनियम, 1993
3. उपभोक्ता संरक्षण अधिनियम, 2019
4. सिविल अधिकार संरक्षण अधिनियम, 1955

Options :

485584135537. 1
485584135538. 2
485584135539. 3
485584135540. 4

Performing Arts

Group Number :	10
Group Id :	485584748
Group Maximum Duration :	45
Group Minimum Duration :	45
Show Attended Group? :	No
Edit Attended Group? :	No
Break time :	0
Group Marks :	200
Is this Group for Examiner? :	No
Examiner permission :	Cant View
Show Progress Bar? :	No

Compulsory

Section Id :	485584862
Section Number :	1
Section type :	Online
Mandatory or Optional :	Mandatory
Number of Questions :	20
Number of Questions to be attempted :	20
Section Marks :	100
Enable Mark as Answered Mark for Review and Clear Response :	Yes
Maximum Instruction Time :	0
Sub-Section Number :	1
Sub-Section Id :	4855842434
Question Shuffling Allowed :	No
Is Section Default? :	null

Question Number : 301 Question Id : 48558433616 Question Type : MCQ Option Shuffling : No Is Question Mandatory : No Calculator : None Response Time : N.A Think Time : N.A Minimum Instruction Time : 0 Correct Marks : 5 Wrong Marks : 1

Question Key Details :

Key	Value
Comprehension	Comp1

Read the paragraph and answer the following questions:

Raga has been manifested through Anibaddha and Nibaddha. Anibaddha refers to free extempore development of a raga. In ancient period, it was done under the concept of Alapti. Alapti is of two types - Ragalapti and Rupkalapti. alapti is governed by Svasthana. there are four types of Svasthana known as Prathama, Dvitya, Tritiya and Chaturtha Svasthana. Rupkalapti is done in two steps, that is, Pratigrahanika and Bhanjani. Bhanjani can further be done in two ways which are Sthaya Bhanjani and Rupak Bhanjani.

Anibaddha is :

1. A composition fixed to Tala
2. A free extempore development of a raga
3. A composition set to Teental
4. A development of a raga with Tanas set to Tala

Options :

485584134461. 1
485584134462. 2
485584134463. 3
485584134464. 4

Question Number : 301 Question Id : 48558433616 Question Type : MCQ Option Shuffling : No Is Question Mandatory : No Calculator : None Response Time : N.A Think Time : N.A Minimum Instruction Time : 0

Correct Marks : 5 Wrong Marks : 1

Question Key Details :

Key	Value
Comprehension	Comp1

राग अनिबद्ध एवं निबद्ध के माध्यम से प्रस्तुत किया जाता है। अनिबद्ध, राग के मुक्त तात्कालिक विकास से संबंधित है। प्राचीन काल में यह आलप्ति की संकल्पना के अंतर्गत किया गया था। आलप्ति के दो प्रकार हैं - रागालप्ति और रूपकालप्ति। आलप्ति, स्वस्थान द्वारा संचालित होती है। स्वस्थान के चार प्रकार हैं जो कि प्रथम, द्वितीय, तृतीय एवं चतुर्थ स्वस्थान के नाम से जाने जाते हैं। रूपकालप्ति दो चरण में संपादित की जाती है, जो प्रतिग्रहणिका एवं भंजनी है। आगे भंजनी को भी दो तरीके से किया जा सकता है जो कि स्थाय भंजनी और रूपक भंजनी है।

अनिबद्ध है:-

1. कोई रचना जो तालबद्ध हो
2. किसी राग का मुक्त आशु विकास
3. तीनताल हेतु निमित्त रचना
4. ताल हेतु निमित्त तानों के साथ किसी राग का विकास

Options :

485584134461. 1
485584134462. 2
485584134463. 3
485584134464. 4

Question Number : 302 Question Id : 48558433617 Question Type : MCQ Option Shuffling : No Is Question Mandatory : No Calculator : None Response Time : N.A Think Time : N.A Minimum Instruction Time : 0

Correct Marks : 5 Wrong Marks : 1

Question Key Details :

Key	Value
-----	-------

Read the paragraph and answer the following questions:

Raga has been manifested through Anibaddha and Nibaddha. Anibaddha refers to free extempore development of a raga. In ancient period, it was done under the concept of Alapti. Alapti is of two types - Ragalapti and Rupkalapti. Alapti is governed by Svasthana. There are four types of Svasthana known as Prathama, Dvitya, Tritiya and Chaturtha Svasthana. Rupkalapti is done in two steps, that is, Pratigrahanika and Bhanjani. Bhanjani can further be done in two ways which are Sthaya Bhanjani and Rupak Bhanjani.

How many varieties of Alapti are there?

1. 2
2. 4
3. 5
4. 7

Options :

485584134465. 1
485584134466. 2
485584134467. 3
485584134468. 4

Question Number : 302 Question Id : 48558433617 Question Type : MCQ Option Shuffling : No Is Question Mandatory : No Calculator : None Response Time : N.A Think Time : N.A Minimum Instruction Time : 0

Correct Marks : 5 Wrong Marks : 1

Question Key Details :

Key	Value
Comprehension	Comp1

राग अनिबद्ध एवं निबद्ध के माध्यम से प्रस्तुत किया जाता है। अनिबद्ध, राग के मुक्त तात्कालिक विकास से संबंधित है। प्राचीन काल में यह आलप्ति की संकल्पना के अंतर्गत किया गया था। आलप्ति के दो प्रकार हैं - रागालप्ति और रूपकालप्ति। आलप्ति, स्वस्थान द्वारा संचालित होती है। स्वस्थान के चार प्रकार हैं जो कि प्रथम, द्वितीय, तृतीय एवं चतुर्थ स्वस्थान के नाम से जाने जाते हैं। रूपकालप्ति दो चरण में संपादित की जाती है, जो प्रतिग्रहणिका एवं भंजनी है। आगे भंजनी को भी दो तरीके से किया जा सकता है जो कि स्थाय भंजनी और रूपक भंजनी है।

आलप्ति के कितने प्रकार होते हैं?

1. 2
2. 4
3. 5
4. 7

Options :

485584134465. 1
485584134466. 2

485584134467. 3

485584134468. 4

Question Number : 303 Question Id : 48558433618 Question Type : MCQ Option Shuffling : No Is Question Mandatory : No Calculator : None Response Time : N.A Think Time : N.A Minimum Instruction Time : 0

Correct Marks : 5 Wrong Marks : 1

Question Key Details :

Key	Value
Comprehension	Comp1

Read the paragraph and answer the following questions:

Raga has been manifested through Anibaddha and Nibaddha. Anibaddha refers to free extempore development of a raga. In ancient period, it was done under the concept of Alapti. Alapti is of two types - Ragalapti and Rupkalapti. alapti is governed by Svasthana. there are four types of Svasthana known as Prathama, Dvitya, Tritiya and Chaturtha Svasthana. Rupkalapti is done in two steps, that is, Pratigrahanika and Bhanjani. Bhanjani can further be done in two ways which are Sthaya Bhanjani and Rupak Bhanjani.

Alapti is governed by :

1. Sthaya
2. Nature of Tala
3. Svasthana
4. Nibaddha

Options :

485584134469. 1

485584134470. 2

485584134471. 3

485584134472. 4

Question Number : 303 Question Id : 48558433618 Question Type : MCQ Option Shuffling : No Is Question Mandatory : No Calculator : None Response Time : N.A Think Time : N.A Minimum Instruction Time : 0

Correct Marks : 5 Wrong Marks : 1

Question Key Details :

Key	Value
Comprehension	Comp1

राग अनिबद्ध एवं निबद्ध के माध्यम से प्रस्तुत किया जाता है। अनिबद्ध, राग के मुक्त तात्कालिक विकास से संबंधित है। प्राचीन काल में यह आलप्ति की संकल्पना के अंतर्गत किया गया था। आलप्ति के दो प्रकार हैं - रागालप्ति और रूपकालप्ति। आलप्ति, स्वस्थान द्वारा संचालित होती है। स्वस्थान के चार प्रकार हैं जो कि प्रथम, द्वितीय, तृतीय एवं चतुर्थ स्वस्थान के नाम से जाने जाते हैं। रूपकालप्ति दो चरणों में संपादित की जाती है, जो प्रतिग्रहणिका एवं भंजनी है। आगे भंजनी को भी दो तरीके से किया जा सकता है जो कि स्थाय भंजनी और रूपक भंजनी है।

आलिप्त किसके द्वारा संचालित होती है?

1. स्थाय
2. ताल की प्रकृति
3. स्वस्थान
4. निबद्ध

Options :

485584134469. 1
485584134470. 2
485584134471. 3
485584134472. 4

Question Number : 304 Question Id : 48558433619 Question Type : MCQ Option Shuffling : No Is Question Mandatory : No Calculator : None Response Time : N.A Think Time : N.A Minimum Instruction Time : 0

Correct Marks : 5 Wrong Marks : 1

Question Key Details :

Key	Value
Comprehension	Compl

Read the paragraph and answer the following questions:

Raga has been manifested through Anibaddha and Nibaddha. Anibaddha refers to free extempore development of a raga. In ancient period, it was done under the concept of Alapti. Alapti is of two types - Ragalapti and Rupkalapti. alapti is governed by Svasthana. there are four types of Svasthana known as Prathama, Dvitya, Tritiya and Chaturtha Svasthana. Rupkalapti is done in two steps, that is, Pratigrahanika and Bhanjani. Bhanjani can further be done in two ways which are Sthaya Bhanjani and Rupak Bhanjani.

Pratigrahanika and Bhanjani are the varieties of :

1. Dhatu
2. Gram
3. Prathama
4. Rupkalapti

Options :

485584134473. 1
485584134474. 2
485584134475. 3
485584134476. 4

Question Number : 304 Question Id : 48558433619 Question Type : MCQ Option Shuffling : No Is Question Mandatory : No Calculator : None Response Time : N.A Think Time : N.A Minimum Instruction Time : 0

Correct Marks : 5 Wrong Marks : 1

Question Key Details :

Key	Value
-----	-------

राग अनिबद्ध एवं निबद्ध के माध्यम से प्रस्तुत किया जाता है। अनिबद्ध, राग के मुक्त तात्कालिक विकास से संबंधित है। प्राचीन काल में यह आलप्ति की संकल्पना के अंतर्गत किया गया था। आलप्ति के दो प्रकार हैं - रागालप्ति और रूपकालप्ति। आलप्ति, स्वस्थान द्वारा संचालित होती है। स्वस्थान के चार प्रकार हैं जो कि प्रथम, द्वितीय, तृतीय एवं चतुर्थ स्वस्थान के नाम से जाने जाते हैं। रूपकालप्ति दो चरण में संपादित की जाती है, जो प्रतिग्रहणिका एवं भंजनी है। आगे भंजनी को भी दो तरीके से किया जा सकता है जो कि स्थाय भंजनी और रूपक भंजनी है।

प्रतिग्रहणिका एवं भंजनी निम्नलिखित में से किसके प्रकार हैं?

1. धातु
2. ग्राम
3. प्रथम
4. रूपकालाप्ति

Options :

485584134473. 1
485584134474. 2
485584134475. 3
485584134476. 4

Question Number : 305 Question Id : 48558433620 Question Type : MCQ Option Shuffling : No Is Question Mandatory : No Calculator : None Response Time : N.A Think Time : N.A Minimum Instruction Time : 0

Correct Marks : 5 Wrong Marks : 1

Question Key Details :

Key	Value
Comprehension	Comp1

Read the paragraph and answer the following questions:

Raga has been manifested through Anibaddha and Nibaddha. Anibaddha refers to free extempore development of a raga. In ancient period, it was done under the concept of Alapti. Alapti is of two types - Ragalapti and Rupkalapti. alapti is governed by Svasthana. there are four types of Svasthana known as Prathama, Dvitya, Tritiya and Chaturtha Svasthana. Rupkalapti is done in two steps, that is, Pratigrahanika and Bhanjani. Bhanjani can further be done in two ways which are Sthaya Bhanjani and Rupak Bhanjani.

The two types of Bhanjani are:

1. Sthaya and Rupak
2. Rupak and Prathama
3. Tritiya and Sthaya
4. Rupak and Chathurtha

Options :

485584134477. 1

485584134478. 2
485584134479. 3
485584134480. 4

Question Number : 305 Question Id : 48558433620 Question Type : MCQ Option Shuffling : No Is Question Mandatory : No Calculator : None Response Time : N.A Think Time : N.A Minimum Instruction Time : 0

Correct Marks : 5 Wrong Marks : 1

Question Key Details :

Key	Value
Comprehension	Comp1

राग अनिबद्ध एवं निबद्ध के माध्यम से प्रस्तुत किया जाता है। अनिबद्ध, राग के मुक्त तात्कालिक विकास से संबंधित है। प्राचीन काल में यह आलप्ति की संकल्पना के अंतर्गत किया गया था। आलप्ति के दो प्रकार हैं - रागालप्ति और रूपकालप्ति। आलप्ति, स्वस्थान द्वारा संचालित होती है। स्वस्थान के चार प्रकार हैं जो कि प्रथम, द्वितीय, तृतीय एवं चतुर्थ स्वस्थान के नाम से जाने जाते हैं। रूपकालप्ति दो चरण में संपादित की जाती है, जो प्रतिग्रहणिका एवं भंजनी है। आगे भंजनी को भी दो तरीके से किया जा सकता है जो कि स्थाय भंजनी और रूपक भंजनी है।

भंजनी के दो प्रकार हैं:-

1. स्थाय और रूपक
2. रूपक और प्रथम
3. तृतीय और स्थाय
4. रूपक और चतुर्थ

Options :

485584134477. 1
485584134478. 2
485584134479. 3
485584134480. 4

Sub-Section Number : 2
Sub-Section Id : 4855842435
Question Shuffling Allowed : No
Is Section Default? : null

Question Number : 306 Question Id : 48558433621 Question Type : MCQ Option Shuffling : No Is Question Mandatory : No Calculator : None Response Time : N.A Think Time : N.A Minimum Instruction Time : 0

Correct Marks : 5 Wrong Marks : 1

Question Key Details :

Key	Value
Comprehension	Comp2

Read the paragraph and answer the following questions:

The Nobel recipient Rabindranath Tagore had a great place for Manipuri dance in his heart. He was attracted to the Manipuri dance form for its many features. In his poem "Chitrangada", which was later transformed into a dance drama, he takes the story to the land of Manipur. We have seen that Tagore was absorbed in padavali lyrics at a very tender age for the beautiful compositional and the descriptive aspect of the padavali poems. He wrote quite a few poems in Brajbuli like vaishnava lyrics in the pen name Bhanusingha which are a collection under the name of "Bhanusingher Padavali". These lyrics serve as a perfect accompaniment to Manipuri dances and often Bhanusingher Padavalis are performed as a dance drama in Manipuri dance style today.

What was the pen name of the author of 'Bhanusingher Padavali'?

1. Rabindranath Tagore
2. Bhanusingha
3. Chitrangada
4. Vaishnava

Options :

485584134481. 1
485584134482. 2
485584134483. 3
485584134484. 4

Question Number : 306 Question Id : 48558433621 Question Type : MCQ Option Shuffling : No Is Question Mandatory : No Calculator : None Response Time : N.A Think Time : N.A Minimum Instruction Time : 0

Correct Marks : 5 Wrong Marks : 1

Question Key Details :

Key	Value
Comprehension	Comp2

निम्नलिखित गद्यांश को ध्यानपूर्वक पढ़कर दिये गये प्रश्नों के उत्तर दीजिये।

नोबल पुरस्कार प्राप्त रबिन्द्रनाथ टैगोर के दिल में मणिपुरी नृत्य के लिये विशेष स्थान था। मणिपुरी नृत्य शैली की तरफ उनके आकर्षित होने के बहुत से कारण थे। उन्होंने अपनी कविता चित्रांगदा जो बाद में एक नृत्य नाटिका में रुपांतरित हुयी, उसका कथ्य उन्होने मणिपुर की धरती से लिया था। हमने देखा कि टैगोर ने पल्लवी सुंदर संयोजन और विवरण के लिये टैगोर ने अपनी छोटी आयु के ही पल्लवी गीतों को आत्मसात कर लिया था। उन्होनें कुछ थोड़ी ही कविताएँ बृजबुली वैष्णव गीत जिनका उपनाम भानुसिंघा जिनका संकलन "भानुसिंघर पदावली" के अंतर्गत है, पर लिखीं। यह गीत श्रेष्ठ संहति है, मणिपुरी नृत्यो हेतु तथा "भानुसिंघर पदावली" वर्तमान में प्रायः नृत्य नाटिका के रूप में, मणिपुरी नृत्यशैली में मंचित किया जाता है।

'भानुसिंघर पदावली' के लेखक का उपनाम नाम क्या है?

1. रबिन्द्रनाथ टैगोर
2. भानुसिंघा
3. चित्रांगदा
4. वैष्णव

Options :

485584134481. 1
485584134482. 2
485584134483. 3
485584134484. 4

Question Number : 307 Question Id : 48558433622 Question Type : MCQ Option Shuffling : No Is Question Mandatory : No Calculator : None Response Time : N.A Think Time : N.A Minimum Instruction Time : 0

Correct Marks : 5 Wrong Marks : 1

Question Key Details :

Key	Value
Comprehension	Comp2

Read the paragraph and answer the following questions:

The Nobel recipient Rabindranath Tagore had a great place for Manipuri dance in his heart. He was attracted to the Manipuri dance form for its many features. In his poem "Chitrangada", which was later transformed into a dance drama, he takes the story to the land of Manipur. We have seen that Tagore was absorbed in padavali lyrics at a very tender age for the beautiful compositional and the descriptive aspect of the padavali poems. He wrote quite a few poems in Brajbuli like vaishnava lyrics in the pen name Bhanusingha which are a collection under the name of "Bhanusingher Padavali". These lyrics serve as a perfect accompaniment to Manipuri dances and often Bhanusingher Padavalis are performed as a dance drama in Manipuri dance style today.

Who got the "Nobel Prize" for his book of poems "Geetanjali"?

1. Rabindranath Tagore
2. Abnindranath Tagore
3. Sachindranath Tagore
4. Brijendranath Tagore

Options :

485584134485. 1
485584134486. 2
485584134487. 3
485584134488. 4

Question Number : 307 Question Id : 48558433622 Question Type : MCQ Option Shuffling : No Is Question Mandatory : No Calculator : None Response Time : N.A Think Time : N.A Minimum Instruction Time : 0

Correct Marks : 5 Wrong Marks : 1

Question Key Details :

Key	Value
Comprehension	Comp2

निम्नलिखित गद्यांश को ध्यानपूर्वक पढ़कर दिये गये प्रश्नों के उत्तर दीजिये।

नोबल पुरस्कार प्राप्त रबिन्द्रनाथ टैगोर के दिल में मणिपुरी नृत्य के लिये विशेष स्थान था। मणिपुरी नृत्य शैली की तरफ उनके आकर्षित होने के बहुत से कारण थे। उन्होंने अपनी कविता चित्रांगदा जो बाद में एक नृत्य नाटिका में रुपांतरित हुयी, उसका कथ्य उन्होंने मणिपुर की धरती से लिया था। हमने देखा कि टैगोर ने पल्लवी सुंदर संयोजन और विवरण के लिये टैगोर ने अपनी छोटी आयु के ही पल्लवी गीतों को आत्मसात कर लिया था। उन्होंने कुछ थोड़ी ही कविताएँ बृजबुली वैष्णव गीत जिनका उपनाम भानुसिंघा जिनका संकलन "भानुसिंघर पदावली" के अंतर्गत है, पर लिखीं। यह गीत श्रेष्ठ संहति है, मणिपुरी नृत्यो हेतु तथा "भानुसिंघर पदावली" वर्तमान में प्रायः नृत्य नाटिका के रूप में, मणिपुरी नृत्यशैली में मंचित किया जाता है।

अपने द्वारा लिखित कविताओं की पुस्तक "गीतांजली" के लिये किनको नोबेल पुरस्कार मिला?

1. रबिन्द्रनाथ टैगोर
2. अबनिन्द्रनाथ टैगोर
3. सचिन्द्रनाथ टैगोर
4. बृजेन्द्रनाथ टैगोर

Options :

485584134485. 1
485584134486. 2
485584134487. 3
485584134488. 4

Question Number : 308 Question Id : 48558433623 Question Type : MCQ Option Shuffling : No Is Question Mandatory : No Calculator : None Response Time : N.A Think Time : N.A Minimum Instruction Time : 0

Correct Marks : 5 Wrong Marks : 1

Question Key Details :

Key	Value
Comprehension	Comp2

Read the paragraph and answer the following questions:

The Nobel recipient Rabindranath Tagore had a great place for Manipuri dance in his heart. He was attracted to the Manipuri dance form for its many features. In his poem "Chitrangada", which was later transformed into a dance drama, he takes the story to the land of Manipur. We have seen that Tagore was absorbed in padavali lyrics at a very tender age for the beautiful compositional and the descriptive aspect of the padavali poems. He wrote quite a few poems in Brajbuli like vaishnava lyrics in the pen name Bhanusingha which are a collection under the name of "Bhanusingher Padavali". These lyrics serve as a perfect accompaniment to Manipuri dances and often Bhanusingher Padavalis are performed as a dance drama in Manipuri dance style today.

Which poem written by Tagore was later turned into a dance-drama in Manipuri dance?

1. Chandalika
2. Geetanjali
3. Sujata
4. Chitrangada

Options :

485584134489. 1
485584134490. 2
485584134491. 3
485584134492. 4

Question Number : 308 Question Id : 48558433623 Question Type : MCQ Option Shuffling : No Is Question Mandatory : No Calculator : None Response Time : N.A Think Time : N.A Minimum Instruction Time : 0

Correct Marks : 5 Wrong Marks : 1

Question Key Details :

Key	Value
Comprehension	Comp2

निम्नलिखित गद्यांश को ध्यानपूर्वक पढ़कर दिये गये प्रश्नों के उत्तर दीजिये।

नोबल पुरस्कार प्राप्त रबिन्द्रनाथ टैगोर के दिल में मणिपुरी नृत्य के लिये विशेष स्थान था। मणिपुरी नृत्य शैली की तरफ उनके आकर्षित होने के बहुत से कारण थे। उन्होंने अपनी कविता चित्रांगदा जो बाद में एक नृत्य नाटिका में रुपांतरित हुयी, उसका कथ्य उन्होने मणिपुर की धरती से लिया था। हमने देखा कि टैगोर ने पल्लवी सुंदर संयोजन और विवरण के लिये टैगोर ने अपनी छोटी आयु के ही पल्लवी गीतों को आत्मसात कर लिया था। उन्होनें कुछ थोड़ी ही कविताएँ बृजबुली वैष्णव गीत जिनका उपनाम भानुसिंघा जिनका संकलन "भानुसिंघर पदावली" के अंतर्गत है, पर लिखीं। यह गीत श्रेष्ठ संहति है, मणिपुरी नृत्यो हेतु तथा 'भानुसिंघर पदावली' वर्तमान में प्रायः नृत्य नाटिका के रूप में, मणिपुरी नृत्यशैली में मंचित किया जाता है।

टैगोर द्वारा लिखित कविता जो बाद में मणिपुरी नृत्य नाटिका में परिवर्तित हुयी।

1. चण्डालिका
2. गीतांजली
3. सुजाता
4. चित्रांगदा

Options :

485584134489. 1
485584134490. 2
485584134491. 3
485584134492. 4

Question Number : 309 Question Id : 48558433624 Question Type : MCQ Option Shuffling : No Is Question Mandatory : No Calculator : None Response Time : N.A Think Time : N.A Minimum Instruction Time : 0

Correct Marks : 5 Wrong Marks : 1

Question Key Details :

Key	Value
Comprehension	Comp2

Read the paragraph and answer the following questions:

The Nobel recipient Rabindranath Tagore had a great place for Manipuri dance in his heart. He was attracted to the Manipuri dance form for its many features. In his poem "Chitrangada", which was later transformed into a dance drama, he takes the story to the land of Manipur. We have seen that Tagore was absorbed in padavali lyrics at a very tender age for the beautiful compositional and the descriptive aspect of the padavali poems. He wrote quite a few poems in Brajbuli like vaishnava lyrics in the pen name Bhanusingha which are a collection under the name of "Bhanusingher Padavali". These lyrics serve as a perfect accompaniment to Manipuri dances and often Bhanusingher Padavalis are performed as a dance drama in Manipuri dance style today.

Which classical dance form had a great place in the heart of Rabindranath Tagore?

1. Mohiniattam
2. Odissi
3. Manipuri
4. Sattriya

Options :

485584134493. 1
485584134494. 2
485584134495. 3
485584134496. 4

Question Number : 309 Question Id : 48558433624 Question Type : MCQ Option Shuffling : No Is Question Mandatory : No Calculator : None Response Time : N.A Think Time : N.A Minimum Instruction Time : 0

Correct Marks : 5 Wrong Marks : 1

Question Key Details :

Key	Value
Comprehension	Comp2

निम्नलिखित गद्यांश को ध्यानपूर्वक पढ़कर दिये गये प्रश्नों के उत्तर दीजिये।

नोबल पुरस्कार प्राप्त रबिन्द्रनाथ टैगोर के दिल में मणिपुरी नृत्य के लिये विशेष स्थान था। मणिपुरी नृत्य शैली की तरफ उनके आकर्षित होने के बहुत से कारण थे। उन्होंने अपनी कविता चित्रांगदा जो बाद में एक नृत्य नाटिका में रुपांतरित हुयी, उसका कथ्य उन्होने मणिपुर की धरती से लिया था। हमने देखा कि टैगोर ने पल्लवी सुंदर संयोजन और विवरण के लिये टैगोर ने अपनी छोटी आयु के ही पल्लवी गीतों को आत्मसात कर लिया था। उन्होनें कुछ थोड़ी ही कविताएँ बृजबुली वैष्णव गीत जिनका उपनाम भानुसिंघा जिनका संकलन "भानुसिंघर पदावली" के अंतर्गत है, पर लिखीं। यह गीत श्रेष्ठ संहति है, मणिपुरी नृत्यो हेतु तथा "भानुसिंघर पदावली" वर्तमान में प्रायः नृत्य नाटिका के रूप में, मणिपुरी नृत्यशैली में मंचित किया जाता है।

कौनसे शास्त्रीय नृत्य के लिये रबिन्द्रनाथ टैगोर के हृदय में सम्मानजनक भाव थे

1. मोहिनीअट्टम
2. ओडिसी
3. मणिपुरी
4. सत्रिया

Options :

485584134493. 1
485584134494. 2
485584134495. 3
485584134496. 4

Question Number : 310 Question Id : 48558433625 Question Type : MCQ Option Shuffling : No Is Question Mandatory : No Calculator : None Response Time : N.A Think Time : N.A Minimum Instruction Time : 0

Correct Marks : 5 Wrong Marks : 1

Question Key Details :

Key	Value
Comprehension	Comp2

Read the paragraph and answer the following questions:

The Nobel recipient Rabindranath Tagore had a great place for Manipuri dance in his heart. He was attracted to the Manipuri dance form for its many features. In his poem "Chitrangada", which was later transformed into a dance drama, he takes the story to the land of Manipur. We have seen that Tagore was absorbed in padavali lyrics at a very tender age for the beautiful compositional and the descriptive aspect of the padavali poems. He wrote quite a few poems in Brajbuli like vaishnava lyrics in the pen name Bhanusingha which are a collection under the name of "Bhanusingher Padavali". These lyrics serve as a perfect accompaniment to Manipuri dances and often Bhanusingher Padavalis are performed as a dance drama in Manipuri dance style today.

"Bhanusingher Padavali" was written in which language?

1. Brajvalli
2. Bengali
3. Brajbuli
4. Pali

Options :

485584134497. 1
485584134498. 2
485584134499. 3
485584134500. 4

Question Number : 310 Question Id : 48558433625 Question Type : MCQ Option Shuffling : No Is Question Mandatory : No Calculator : None Response Time : N.A Think Time : N.A Minimum Instruction Time : 0

Correct Marks : 5 Wrong Marks : 1

Question Key Details :

Key	Value
Comprehension	Comp2

निम्नलिखित गद्यांश को ध्यानपूर्वक पढ़कर दिये गये प्रश्नों के उत्तर दीजिये।

नोबल पुरस्कार प्राप्त रबिन्द्रनाथ टैगोर के दिल में मणिपुरी नृत्य के लिये विशेष स्थान था। मणिपुरी नृत्य शैली की तरफ उनके आकर्षित होने के बहुत से कारण थे। उन्होंने अपनी कविता चित्रांगदा जो बाद में एक नृत्य नाटिका में रुपांतरित हुयी, उसका कथ्य उन्होने मणिपुर की धरती से लिया था। हमने देखा कि टैगोर ने पल्लवी सुंदर संयोजन और विवरण के लिये टैगोर ने अपनी छोटी आयु के ही पल्लवी गीतों को आत्मसात कर लिया था। उन्होनें कुछ थोड़ी ही कविताएँ बृजबुली वैष्णव गीत जिनका उपनाम भानुसिंघा जिनका संकलन "भानुसिंघर पदावली" के अंतर्गत है, पर लिखीं। यह गीत श्रेष्ठ संहति है, मणिपुरी नृत्यो हेतु तथा "भानुसिंघर पदावली" वर्तमान में प्रायः नृत्य नाटिका के रूप में, मणिपुरी नृत्यशैली में मंचित किया जाता है।

"भानुसिंघर पदावली" किस भाषा में लिखी गयी है?

1. बृजवल्ली
2. बंगाली
3. बृजबुली
4. पाली

Options :

485584134497. 1
485584134498. 2
485584134499. 3
485584134500. 4

Sub-Section Number :	3
Sub-Section Id :	4855842436
Question Shuffling Allowed :	No
Is Section Default? :	null

Question Number : 311 Question Id : 48558433626 Question Type : MCQ Option Shuffling : No Is Question Mandatory : No Calculator : None Response Time : N.A Think Time : N.A Minimum Instruction Time : 0

Correct Marks : 5 Wrong Marks : 1

Question Key Details :

Key	Value
Comprehension	Comp3

There is a great importance of laya in Indian Talas. Laya has been categorised basically into three types - Vilambit, Madhya and Druta. The rule of application in various forms of laya is called 'Yati'. Yati denotes application of 'gati'. Yati has been classified into five types, Sama, Strotogata, Gopuchha, Mridanga and Pipilika. In sama yati, the same laya is used throughout, that is beginning to end. In strotogata, initially we use slow (vilambit) laya whereas Madhya occurs in the middle and Drut laya comes at the end. When it comes to Gopuchha, exactly inverse order of layas is put to application vis a vis strotogata meaning thereby in the later Druta, Madhya laya and Vilambit laya occurs in the first, middle and last order. In Mridanga, drut laya is used at the outset as well as at the end and Madhya laya is used amidst thereof. In Pipilika, vilambit laya occurs in the beginning, at the end while madhya laya is used in middle order, hence 'Yati' is an important aspect of tala's Das Pranas.

Read the above passage and answer the following questions:

Which is the part of Ten pranas of Talas?

1. Chakradar
2. Uthan
3. Yati
4. Peshkar

Options :

485584134501. 1
 485584134502. 2
 485584134503. 3
 485584134504. 4

Question Number : 311 Question Id : 48558433626 Question Type : MCQ Option Shuffling : No Is Question Mandatory : No Calculator : None Response Time : N.A Think Time : N.A Minimum Instruction Time : 0

Correct Marks : 5 Wrong Marks : 1

Question Key Details :

Key	Value
Comprehension	Comp3

भारतीय तालों में लय का बहुत महत्व है। लय मुख्यतः तीन प्रकार की होती है - विलंबित, मध्य एवं द्रुत। लय के विभिन्न रूपों में प्रयोग के नियम को 'यति' कहा गया है। यति, गति के प्रयोग को दर्शाती है। यति पाँच प्रकार की होती है - समा, स्रोतोगता, गोपुच्छा, मृदंगा और पिपीलिका। समा यति में प्रारंभ से अंत तक एक समान लय का प्रयोग होता है। स्रोतोगता में आरम्भ में विलंबित, मध्य में मध्य तथा अंत में द्रुत लय का प्रयोग होता है। गोपुच्छा में स्रोतोगता के ठीक विपरीत लय का प्रयोग होता है अर्थात् गोपुच्छा में प्रारम्भ में द्रुत, मध्य में मध्य लय तथा अन्त में विलंबित लय का प्रयोग होता है। मृदंगा में प्रारम्भ एवं अंत में द्रुत लय तथा बीच में मध्य लय होती है। पिपीलिका में प्रारंभ एवं अंत में विलंबित तथा बीच में मध्य लय का प्रयोग होता है। अतः यति ताल के दस प्राणों का महत्वपूर्ण अंग है। उपरोक्त गद्यांश के आधार पर निम्नलिखित प्रश्नों के उत्तर दीजिए-

ताल के दस प्राणों में सम्मिलित है?

1. चक्रदार
2. उठान
3. यति
4. पेशकार

Options :

485584134501. 1
485584134502. 2
485584134503. 3
485584134504. 4

Question Number : 312 Question Id : 48558433627 Question Type : MCQ Option Shuffling : No Is Question Mandatory : No Calculator : None Response Time : N.A Think Time : N.A Minimum Instruction Time : 0

Correct Marks : 5 Wrong Marks : 1

Question Key Details :

Key	Value
Comprehension	Comp3

There is a great importance of laya in Indian Talas. Laya has been categorised basically into three types - Vilambit, Madhya and Druta. The rule of application in various forms of laya is called 'Yati'. Yati denotes application of 'gati'. Yati has been classified into five types, Sama, Strotogata, Gopuchha, Mridanga and Pipilika. In sama yati, the same laya is used throughout, that is beginning to end. In strotogata, initially we use slow (vilambit) laya whereas Madhya occurs in the middle and Drut laya comes at the end. When it comes to Gopuchha, exactly inverse order of layas is put to application vis a vis strotogata meaning thereby in the later Druta, Madhya laya and Vilambit laya occurs in the first, middle and last order. In Mridanga, drut laya is used at the outset as well as at the end and Madhya laya is used amidst thereof. In Pipilika, vilambit laya occurs in the beginning, at the end while madhya laya is used in middle order, hence 'Yati' is an important aspect of tala's Das Pranas.

Read the above passage and answer the following questions:

How many types of Yati are there?

1. 3
2. 5
3. 6
4. 8

Options :

485584134505. 1
485584134506. 2
485584134507. 3
485584134508. 4

Question Number : 312 Question Id : 48558433627 Question Type : MCQ Option Shuffling : No Is Question Mandatory : No Calculator : None Response Time : N.A Think Time : N.A Minimum Instruction Time : 0

Correct Marks : 5 Wrong Marks : 1

Question Key Details :

Key	Value
Comprehension	Comp3

भारतीय तालों में लय का बहुत महत्व है। लय मुख्यतः तीन प्रकार की होती है - विलंबित, मध्य एवं द्रुत। लय के विभिन्न रूपों में प्रयोग के नियम को 'यति' कहा गया है। यति, गति के प्रयोग को दर्शाती है। यति पाँच प्रकार की होती है - समा, स्रोतोगता, गोपुच्छा, मृदंगा और पिपीलिका। समा यति में प्रारंभ से अंत तक एक समान लय का प्रयोग होता है। स्रोतोगता में आरम्भ में विलंबित, मध्य में मध्य तथा अंत में द्रुत लय का प्रयोग होता है। गोपुच्छा में स्रोतोगता के ठीक विपरीत लय का प्रयोग होता है अर्थात् गोपुच्छा में प्रारम्भ में द्रुत, मध्य में मध्य लय तथा अन्त में विलंबित लय का प्रयोग होता है। मृदंगा में प्रारम्भ एवं अंत में द्रुत लय तथा बीच में मध्य लय होती है। पिपीलिका में प्रारंभ एवं अंत में विलंबित तथा बीच में मध्य लय का प्रयोग होता है। अतः यति ताल के दस प्राणों का महत्वपूर्ण अंग है। उपरोक्त गद्यांश के आधार पर निम्नलिखित प्रश्नों के उत्तर दीजिए-

यति के कितने प्रकार हैं:

1. 3
2. 5
3. 6
4. 8

Options :

485584134505. 1
485584134506. 2
485584134507. 3
485584134508. 4

Question Number : 313 Question Id : 48558433628 Question Type : MCQ Option Shuffling : No Is Question Mandatory : No Calculator : None Response Time : N.A Think Time : N.A Minimum Instruction Time : 0

Correct Marks : 5 Wrong Marks : 1

Question Key Details :

Key	Value
Comprehension	Comp3

There is a great importance of laya in Indian Talas. Laya has been categorised basically into three types - Vilambit, Madhya and Druta. The rule of application in various forms of laya is called 'Yati'. Yati denotes application of 'gati'. Yati has been classified into five types, Sama, Strotogata, Gopuchha, Mridanga and Pipilika. In sama yati, the same laya is used throughout, that is beginning to end. In strotogata, initially we use slow (vilambit) laya whereas Madhya occurs in the middle and Drut laya comes at the end. When it comes to Gopuchha, exactly inverse order of layas is put to application vis a vis strotogata meaning thereby in the later Druta, Madhya laya and Vilambit laya occurs in the first, middle and last order. In Mridanga, drut laya is used at the outset as well as at the end and Madhya laya is used amidst thereof. In Pipilika, vilambit laya occurs in the beginning, at the end while madhya laya is used in middle order, hence 'Yati' is an important aspect of tala's Das Pranas.

Read the above passage and answer the following questions:

Application of laya in Sama yati is:

1. Drut, Madhya, Drut
2. Madhya, Drut, Madhya
3. Same laya from beginning to end
4. Drut laya at the beginning and end, and vilambit laya in the middle

Options :

485584134509. 1
 485584134510. 2
 485584134511. 3
 485584134512. 4

Question Number : 313 Question Id : 48558433628 Question Type : MCQ Option Shuffling : No Is Question Mandatory : No Calculator : None Response Time : N.A Think Time : N.A Minimum Instruction Time : 0

Correct Marks : 5 Wrong Marks : 1

Question Key Details :

Key	Value
Comprehension	Comp3

भारतीय तालों में लय का बहुत महत्व है। लय मुख्यतः तीन प्रकार की होती है - विलंबित, मध्य एवं द्रुत। लय के विभिन्न रूपों में प्रयोग के नियम को 'यति' कहा गया है। यति, गति के प्रयोग को दर्शाती है। यति पाँच प्रकार की होती है - समा, स्रोतोगता, गोपुच्छा, मृदंगा और पिपीलिका। समा यति में प्रारंभ से अंत तक एक समान लय का प्रयोग होता है। स्रोतोगता में आरम्भ में विलंबित, मध्य में मध्य तथा अंत में द्रुत लय का प्रयोग होता है। गोपुच्छा में स्रोतोगता के ठीक विपरीत लय का प्रयोग होता है अर्थात् गोपुच्छा में प्रारम्भ में द्रुत, मध्य में मध्य लय तथा अन्त में विलंबित लय का प्रयोग होता है। मृदंगा में प्रारम्भ एवं अंत में द्रुत लय तथा बीच में मध्य लय होती है। पिपीलिका में प्रारंभ एवं अंत में विलंबित तथा बीच में मध्य लय का प्रयोग होता है। अतः यति ताल के दस प्राणों का महत्वपूर्ण अंग है। उपरोक्त गद्यांश के आधार पर निम्नलिखित प्रश्नों के उत्तर दीजिए-

समा यति में लय का प्रयोग है:

1. द्रुत, मध्य, द्रुत
2. मध्य, द्रुत, मध्य
3. शुरु से अंत तक समान लय
4. प्रारंभ एवं अंत में द्रुत, मध्य में विलंबित लय

Options :

485584134509. 1
485584134510. 2
485584134511. 3
485584134512. 4

Question Number : 314 Question Id : 48558433629 Question Type : MCQ Option Shuffling : No Is Question Mandatory : No Calculator : None Response Time : N.A Think Time : N.A Minimum Instruction Time : 0

Correct Marks : 5 Wrong Marks : 1

Question Key Details :

Key	Value
Comprehension	Comp3

There is a great importance of laya in Indian Talas. Laya has been categorised basically into three types - Vilambit, Madhya and Druta. The rule of application in various forms of laya is called 'Yati'. Yati denotes application of 'gati'. Yati has been classified into five types, Sama, Strotogata, Gopuchha, Mridanga and Pipilika. In sama yati, the same laya is used throughout, that is beginning to end. In strotogata, initially we use slow (vilambit) laya whereas Madhya occurs in the middle and Drut laya comes at the end. When it comes to Gopuchha, exactly inverse order of layas is put to application vis a vis strotogata meaning thereby in the later Druta, Madhya laya and Vilambit laya occurs in the first, middle and last order. In Mridanga, drut laya is used at the outset as well as at the end and Madhya laya is used amidst thereof. In Pipilika, vilambit laya occurs in the beginning, at the end while madhya laya is used in middle order, hence 'Yati' is an important aspect of tala's Das Pranas.

Read the above passage and answer the following questions:

Drut in the beginning and end, and Madhya laya in the middle is:

1. Sama
2. Pipilika
3. Gopuccha
4. Mridanga

Options :

485584134513. 1
485584134514. 2
485584134515. 3
485584134516. 4

Question Number : 314 Question Id : 48558433629 Question Type : MCQ Option Shuffling : No Is Question Mandatory : No Calculator : None Response Time : N.A Think Time : N.A Minimum Instruction Time : 0

Correct Marks : 5 Wrong Marks : 1

Question Key Details :

Key	Value
Comprehension	Comp3

भारतीय तालों में लय का बहुत महत्व है। लय मुख्यतः तीन प्रकार की होती है - विलंबित, मध्य एवं द्रुत। लय के विभिन्न रूपों में प्रयोग के नियम को 'यति' कहा गया है। यति, गति के प्रयोग को दर्शाती है। यति पाँच प्रकार की होती है - समा, स्रोतोगता, गोपुच्छा, मृदंगा और पिपीलिका। समा यति में प्रारंभ से अंत तक एक समान लय का प्रयोग होता है। स्रोतोगता में आरम्भ में विलंबित, मध्य में मध्य तथा अंत में द्रुत लय का प्रयोग होता है। गोपुच्छा में स्रोतोगता के ठीक विपरीत लय का प्रयोग होता है अर्थात् गोपुच्छा में प्रारम्भ में द्रुत, मध्य में मध्य लय तथा अन्त में विलंबित लय का प्रयोग होता है। मृदंगा में प्रारम्भ एवं अंत में द्रुत लय तथा बीच में मध्य लय होती है। पिपीलिका में प्रारंभ एवं अंत में विलंबित तथा बीच में मध्य लय का प्रयोग होता है। अतः यति ताल के दस प्राणों का महत्वपूर्ण अंग है। उपरोक्त गद्यांश के आधार पर निम्नलिखित प्रश्नों के उत्तर दीजिए-

प्रारंभ एवं अंत में द्रुत तथा मध्य में मध्य लय है:

1. समा
2. पिपीलिका
3. गोपुच्छा
4. मृदंगा

Options :

485584134513. 1
485584134514. 2
485584134515. 3
485584134516. 4

Question Number : 315 Question Id : 48558433630 Question Type : MCQ Option Shuffling : No Is Question Mandatory : No Calculator : None Response Time : N.A Think Time : N.A Minimum Instruction Time : 0

Correct Marks : 5 Wrong Marks : 1

Question Key Details :

Key	Value
Comprehension	Comp3

There is a great importance of laya in Indian Talas. Laya has been categorised basically into three types - Vilambit, Madhya and Druta. The rule of application in various forms of laya is called 'Yati'. Yati denotes application of 'gati'. Yati has been classified into five types, Sama, Strotogata, Gopuchha, Mridanga and Pipilika. In sama yati, the same laya is used throughout, that is beginning to end. In strotogata, initially we use slow (vilambit) laya whereas Madhya occurs in the middle and Drut laya comes at the end. When it comes to Gopuchha, exactly inverse order of layas is put to application vis a vis strotogata meaning thereby in the later Druta, Madhya laya and Vilambit laya occurs in the first, middle and last order. In Mridanga, drut laya is used at the outset as well as at the end and Madhya laya is used amidst thereof. In Pipilika, vilambit laya occurs in the beginning, at the end while madhya laya is used in middle order, hence 'Yati' is an important aspect of tala's Das Pranas.

Read the above passage and answer the following questions:

The sequence of laya in strotogata is:

1. Vilambit - Madhya - Drut
2. Drut - Madhya - Drut
3. Drut - Drut - Madhya
4. Madhya - Vilambit - Drut

Options :

485584134517. 1
 485584134518. 2
 485584134519. 3
 485584134520. 4

Question Number : 315 Question Id : 48558433630 Question Type : MCQ Option Shuffling : No Is Question Mandatory : No Calculator : None Response Time : N.A Think Time : N.A Minimum Instruction Time : 0

Correct Marks : 5 Wrong Marks : 1

Question Key Details :

Key	Value
Comprehension	Comp3

भारतीय तालों में लय का बहुत महत्व है। लय मुख्यतः तीन प्रकार की होती है - विलंबित, मध्य एवं द्रुत। लय के विभिन्न रूपों में प्रयोग के नियम को 'यति' कहा गया है। यति, गति के प्रयोग को दर्शाती है। यति पाँच प्रकार की होती है - समा, स्रोतोगता, गोपुच्छा, मृदंगा और पिपीलिका। समा यति में प्रारंभ से अंत तक एक समान लय का प्रयोग होता है। स्रोतोगता में आरम्भ में विलंबित, मध्य में मध्य तथा अंत में द्रुत लय का प्रयोग होता है। गोपुच्छा में स्रोतोगता के ठीक विपरीत लय का प्रयोग होता है अर्थात् गोपुच्छा में प्रारम्भ में द्रुत, मध्य में मध्य लय तथा अन्त में विलंबित लय का प्रयोग होता है। मृदंगा में प्रारम्भ एवं अंत में द्रुत लय तथा बीच में मध्य लय होती है। पिपीलिका में प्रारंभ एवं अंत में विलंबित तथा बीच में मध्य लय का प्रयोग होता है। अतः यति ताल के दस प्राणों का महत्वपूर्ण अंग है। उपरोक्त गद्यांश के आधार पर निम्नलिखित प्रश्नों के उत्तर दीजिए-

स्तोतोगता का लय प्रवाह है:

1. विलंबित- मध्य-द्रुत
2. द्रुत- मध्य- द्रुत
3. द्रुत- द्रुत- मध्य
4. मध्य- विलंबित- द्रुत

Options :

485584134517. 1
485584134518. 2
485584134519. 3
485584134520. 4

Sub-Section Number : 4
Sub-Section Id : 4855842437
Question Shuffling Allowed : No
Is Section Default? : null

Question Number : 316 Question Id : 48558433631 Question Type : MCQ Option Shuffling : No Is Question Mandatory : No Calculator : None Response Time : N.A Think Time : N.A Minimum Instruction Time : 0

Correct Marks : 5 Wrong Marks : 1

Question Key Details :

Key	Value
Comprehension	Comp4

Read the following passage and answer the questions given below:

Sangeet Natak Akademi (SNA)

The SNA was established on 31 May 1952. In his speech at the inauguration on 28 January 1953, Maulana Azad (1888-1958), then Union Minister for Education and later founder of the Indian Council for Cultural Relations (ICCR), said that the aim of the SNA was to 'preserve our traditions by offering them an institutional form'.

The SNA's mission, stated in its Memorandum of Association is:

To promote research in the fields of Indian music, dance and drama and for this purpose to establish a library and a museum; to encourage the exchange of ideas and enrichment of techniques between the different regions in regard to the arts of music, dance and drama; to publish research on Indian performing arts; to revive and preserve folk traditions in different regions; to sponsor and encourage festival, seminars and conferences; to give recognition to individual artists for outstanding achievement; to foster cultural contacts between different regions of the country and with other countries; and to cooperate with similar Akademis, institutions and associations for the furtherance of these objectives

With respect to theatre, the SNA holds workshops for playwrights; funds interstate cultural exchange programmes; funds research in the traditional performing arts; offers financial support to cultural institutions; organizes festivals of modern theatre, traditional performance, shadow theatre, marionette theatre and other forms of puppetry; gives awards and fellowship to distinguished artists; collects audiotapes, videos and photographs; and maintains an audiovisual archive as well as a library.

When was the Sangeet Natak Akademi inaugurated?

1. 1952
2. 1953
3. 1954
4. 1950

Options :

485584134521. 1
485584134522. 2
485584134523. 3
485584134524. 4

Question Number : 316 Question Id : 48558433631 Question Type : MCQ Option Shuffling : No Is Question Mandatory : No Calculator : None Response Time : N.A Think Time : N.A Minimum Instruction Time : 0

Correct Marks : 5 Wrong Marks : 1

Question Key Details :

Key	Value
Comprehension	Comp4

निम्नलिखित गद्यांश को ध्यानपूर्वक पढ़कर दिये गये प्रश्नों के उत्तर दीजिये।

संगीत नाटक अकादमी (SNA)

संगीत नाटक अकादमी की स्थापना 31 मई 1952 में हुयी। 18 जनवरी 1953 को तत्कालीन केन्द्रीय शिक्षा मंत्री और उसके बाद भारतीय सांस्कृतिक संबंध परिषद (ICCR) के संस्थापक मौलाना आज़ाद (1888-1958) ने अपने उद्घाटन भाषण में कहा कि संगीत नाटक अकादमी की स्थापना का उद्देश्य हमारी परंपराओं को संस्थानिक रूप देकर संरक्षित करना है।

संगीत नाटक अकादमी (SNA) का उद्देश्य, उसके संघ के परिपत्र में निर्दिष्ट है:

भारतीय संगीत, नृत्य और नाट्य के क्षेत्र में अनुसंधान को प्रोत्साहन और इस हेतु पुस्कालय तथा संग्राहलय की स्थापना; विभिन्न क्षेत्रों के संगीत, नृत्य और नाट्य के संदर्भ में विचारों के आदान प्रदान तथा तकनीक में समृद्धि को प्रोत्साहन; भारतीय प्रदर्शन कलाओं के अनुसंधान का प्रकाशन, विभिन्न प्रदेशों के लोकनाटकों को पुनर्जीवित और संरक्षित करना, उत्सवों और समारोहों, गोष्ठियों और सम्मेलन प्रायोजित एवं प्रोत्साहित करना, विशेष उपलब्धियों के लिये वैयक्तिक कलाकारों को प्रतिष्ठा देना; देश के विभिन्न प्रदेशों और विदेशों के साथ, सांस्कृतिक संबंधों को प्रोत्साहन; और एक समान अकादमियों संस्थानों और संगठनों में इन उद्देश्यों की प्राप्ति हेतु समन्वय स्थापित करना।

रंगमंच के संदर्भ में, संगीत नाटक अकादमी नाट्यलेखकों के लिये कार्यशाला का आयोजन करती हैं, अंतरराज्यीय सांस्कृतिक कार्यक्रमों को धन राशि उपलब्ध कराती है; पारंपरिक प्रदर्शन कलाओं के अनुसंधान हेतु अनुदान देती है; सांस्कृतिक संस्थानों को वित्तीय सहायता देती है; आधुनिक रंगमंच, पारंपरिक प्रस्तुतियों, शोडो रंगमंच कठपुतली नाटक और इसी प्रकार की अन्य शैलियों हेतु समारोह आयोजित करती है; पुरस्कार और फैलोशिप देती है सम्मानित कलाकारों को आडियो टेप्स, वीडियो और छविचित्रों को एकचित्र करती है; और दृश्य श्रव्य संग्रहालय और पुस्तकालय चलाती है।

संगीत नाटक अकादमी का उद्घाटन कब हुआ?

1. 1952
2. 1953
3. 1954
4. 1950

Options :

485584134521. 1
485584134522. 2
485584134523. 3
485584134524. 4

Question Number : 317 Question Id : 48558433632 Question Type : MCQ Option Shuffling : No Is Question Mandatory : No Calculator : None Response Time : N.A Think Time : N.A Minimum Instruction Time : 0

Correct Marks : 5 Wrong Marks : 1

Question Key Details :

Key	Value
Comprehension	Comp4

Read the following passage and answer the questions given below:

Sangeet Natak Akademi (SNA)

The SNA was established on 31 May 1952. In his speech at the inauguration on 28 January 1953, Maulana Azad (1888-1958), then Union Minister for Education and later founder of the Indian Council for Cultural Relations (ICCR), said that the aim of the SNA was to 'preserve our traditions by offering them an institutional form'.

The SNA's mission, stated in its Memorandum of Association is:

To promote research in the fields of Indian music, dance and drama and for this purpose to establish a library and a museum; to encourage the exchange of ideas and enrichment of techniques between the different regions in regard to the arts of music, dance and drama; to publish research on Indian performing arts; to revive and preserve folk traditions in different regions; to sponsor and encourage festival, seminars and conferences; to give recognition to individual artists for outstanding achievement; to foster cultural contacts between different regions of the country and with other countries; and to cooperate with similar Akademis, institutions and associations for the furtherance of these objectives

With respect to theatre, the SNA holds workshops for playwrights; funds interstate cultural exchange programmes; funds research in the traditional performing arts; offers financial support to cultural institutions; organizes festivals of modern theatre, traditional performance, shadow theatre, marionette theatre and other forms of puppetry; gives awards and fellowship to distinguished artists; collects audiotapes, videos and photographs; and maintains an audiovisual archive as well as a library.

Who among the following was independent India's first Union Minister for Education?

1. Babasaheb Ambedkar
2. Sardar Vallabhbhai Patel
3. Maulana Azad
4. Rajendra Prasad

Options :

485584134525. 1
485584134526. 2
485584134527. 3
485584134528. 4

Question Number : 317 Question Id : 48558433632 Question Type : MCQ Option Shuffling : No Is Question Mandatory : No Calculator : None Response Time : N.A Think Time : N.A Minimum Instruction Time : 0

Correct Marks : 5 Wrong Marks : 1

Question Key Details :

Key	Value
Comprehension	Comp4

निम्नलिखित गद्यांश को ध्यानपूर्वक पढ़कर दिये गये प्रश्नों के उत्तर दीजिये।

संगीत नाटक अकादमी (SNA)

संगीत नाटक अकादमी की स्थापना 31 मई 1952 में हुयी। 18 जनवरी 1953 को तत्कालीन केन्द्रीय शिक्षा मंत्री और उसके बाद भारतीय सांस्कृतिक संबंध परिषद (ICCR) के संस्थापक मौलाना आज़ाद (1888-1958) ने अपने उद्घाटन भाषण में कहा कि संगीत नाटक अकादमी की स्थापना का उद्देश्य हमारी परंपराओं को संस्थानिक रूप देकर संरक्षित करना है।

संगीत नाटक अकादमी (SNA) का उद्देश्य, उसके संघ के परिपत्र में निर्दिष्ट है:

भारतीय संगीत, नृत्य और नाट्य के क्षेत्र में अनुसंधान को प्रोत्साहन और इस हेतु पुस्कालय तथा संग्रहालय की स्थापना; विभिन्न क्षेत्रों के संगीत, नृत्य और नाट्य के संदर्भ में विचारों के आदान प्रदान तथा तकनीक में समृद्धि को प्रोत्साहन; भारतीय प्रदर्शन कलाओं के अनुसंधान का प्रकाशन, विभिन्न प्रदेशों के लोकनाटकों को पुनर्जीवित और संरक्षित करना, उत्सवों और समारोहों, गोष्ठियों और सम्मेलन प्रायोजित एवं प्रोत्साहित करना, विशेष उपलब्धियों के लिये वैयक्तिक कलाकारों को प्रतिष्ठा देना; देश के विभिन्न प्रदेशों और विदेशों के साथ, सांस्कृतिक संबंधों को प्रोत्साहन; और एक समान अकादमियों संस्थानों और संगठनों में इन उद्देश्यों की प्राप्ति हेतु समन्वय स्थापित करना।

रंगमंच के संदर्भ में, संगीत नाटक अकादमी नाट्यलेखकों के लिये कार्यशाला का आयोजन करती हैं, अंतरराज्यीय सांस्कृतिक कार्यक्रमों को धन राशि उपलब्ध कराती है; पारंपरिक प्रदर्शन कलाओं के अनुसंधान हेतु अनुदान देती है; सांस्कृतिक संस्थानों को वित्तीय सहायता देती है; आधुनिक रंगमंच, पारंपरिक प्रस्तुतियों, शोडो रंगमंच कठपुतली नाटक और इसी प्रकार की अन्य शैलियों हेतु समारोह आयोजित करती है; पुरस्कार और फेलोशिप देती है सम्मानित कलाकारों को आडियो टेप्स, वीडियो और छविचित्रों को एकत्र करती है; और दृश्य श्रव्य संग्रहालय और पुस्कालीय चलाती है।

निम्न में से कौन स्वतंत्र भारत के प्रथम केन्द्रीय शिक्षा मंत्री थे?

1. बाबा साहब आम्बेडकर
2. सरदार वल्लभभाई पटेल
3. मौलाना आज़ाद
4. राजेन्द्र प्रसाद

Options :

485584134525. 1
485584134526. 2
485584134527. 3
485584134528. 4

Question Number : 318 Question Id : 48558433633 Question Type : MCQ Option Shuffling : No Is Question Mandatory : No Calculator : None Response Time : N.A Think Time : N.A Minimum Instruction Time : 0

Correct Marks : 5 Wrong Marks : 1

Question Key Details :

Key	Value
Comprehension	Comp4

Read the following passage and answer the questions given below:

Sangeet Natak Akademi (SNA)

The SNA was established on 31 May 1952. In his speech at the inauguration on 28 January 1953, Maulana Azad (1888-1958), then Union Minister for Education and later founder of the Indian Council for Cultural Relations (ICCR), said that the aim of the SNA was to 'preserve our traditions by offering them an institutional form'.

The SNA's mission, stated in its Memorandum of Association is:

To promote research in the fields of Indian music, dance and drama and for this purpose to establish a library and a museum; to encourage the exchange of ideas and enrichment of techniques between the different regions in regard to the arts of music, dance and drama; to publish research on Indian performing arts; to revive and preserve folk traditions in different regions; to sponsor and encourage festival, seminars and conferences; to give recognition to individual artists for outstanding achievement; to foster cultural contacts between different regions of the country and with other countries; and to cooperate with similar Akademis, institutions and associations for the furtherance of these objectives

With respect to theatre, the SNA holds workshops for playwrights; funds interstate cultural exchange programmes; funds research in the traditional performing arts; offers financial support to cultural institutions; organizes festivals of modern theatre, traditional performance, shadow theatre, marionette theatre and other forms of puppetry; gives awards and fellowship to distinguished artists; collects audiotapes, videos and photographs; and maintains an audiovisual archive as well as a library.

'To preserve our traditions by offering them an institutional form', was the aim of:

1. Indian Council for Cultural Relations
2. National School of Drama
3. Lalitkala Akademi
4. Sangeet Natak Akademi

Options :

485584134529. 1
485584134530. 2
485584134531. 3
485584134532. 4

Question Number : 318 Question Id : 48558433633 Question Type : MCQ Option Shuffling : No Is Question Mandatory : No Calculator : None Response Time : N.A Think Time : N.A Minimum Instruction Time : 0

Correct Marks : 5 Wrong Marks : 1

Question Key Details :

Key	Value
Comprehension	Comp4

निम्नलिखित गद्यांश को ध्यानपूर्वक पढ़कर दिये गये प्रश्नों के उत्तर दीजिये।

संगीत नाटक अकादमी (SNA)

संगीत नाटक अकादमी की स्थापना 31 मई 1952 में हुयी। 18 जनवरी 1953 को तत्कालीन केन्द्रीय शिक्षा मंत्री और उसके बाद भारतीय सांस्कृतिक संबंध परिषद (ICCR) के संस्थापक मौलाना आज़ाद (1888-1958) ने अपने उद्घाटन भाषण में कहा कि संगीत नाटक अकादमी की स्थापना का उद्देश्य हमारी परंपराओं को संस्थानिक रूप देकर संरक्षित करना है।

संगीत नाटक अकादमी (SNA) का उद्देश्य, उसके संघ के परिपत्र में निर्दिष्ट है:

भारतीय संगीत, नृत्य और नाट्य के क्षेत्र में अनुसंधान को प्रोत्साहन और इस हेतु पुस्कालय तथा संग्रहालय की स्थापना; विभिन्न क्षेत्रों के संगीत, नृत्य और नाट्य के संदर्भ में विचारों के आदान प्रदान तथा तकनीक में समृद्धि को प्रोत्साहन; भारतीय प्रदर्शन कलाओं के अनुसंधान का प्रकाशन, विभिन्न प्रदेशों के लोकनाटकों को पुनर्जीवित और संरक्षित करना, उत्सवों और समारोहों, गोष्ठियों और सम्मेलन प्रायोजित एवं प्रोत्साहित करना, विशेष उपलब्धियों के लिये वैयक्तिक कलाकारों को प्रतिष्ठा देना; देश के विभिन्न प्रदेशों और विदेशों के साथ, सांस्कृतिक संबंधों को प्रोत्साहन; और एक समान अकादमियों संस्थानों और संगठनों में इन उद्देश्यों की प्राप्ति हेतु समन्वय स्थापित करना।

रंगमंच के संदर्भ में, संगीत नाटक अकादमी नाट्यलेखकों के लिये कार्यशाला का आयोजन करती हैं, अंतरराज्यीय सांस्कृतिक कार्यक्रमों को धन राशि उपलब्ध कराती है; पारंपरिक प्रदर्शन कलाओं के अनुसंधान हेतु अनुदान देती है; सांस्कृतिक संस्थानों को वित्तीय सहायता देती है; आधुनिक रंगमंच, पारंपरिक प्रस्तुतियों, शोडो रंगमंच कठपुतली नाटक और इसी प्रकार की अन्य शैलियों हेतु समारोह आयोजित करती है; पुरस्कार और फेलोशिप देती है सम्मानित कलाकारों को आडियो टेप्स, वीडियो और छविचित्रों को एकत्र करती है; और दृश्य श्रव्य संग्रहालय और पुस्कालीय चलाती है।

परंपराओं को संस्थानिक रूप देकर, उनका संरक्षण करना किसका उद्देश्य था:

1. भारतीय सांस्कृतिक संबंध-परिषद (Indian Council for Cultural Relations)
2. राष्ट्रीय नाट्य विद्यालय (National School of Drama)
3. ललित कला अकादमी (Lalitkala Akademi)
4. संगीत नाटक अकादमी (Sangeet Natak Akademi)

Options :

485584134529. 1
485584134530. 2
485584134531. 3
485584134532. 4

Question Number : 319 Question Id : 48558433634 Question Type : MCQ Option Shuffling : No Is Question Mandatory : No Calculator : None Response Time : N.A Think Time : N.A Minimum Instruction Time : 0

Correct Marks : 5 Wrong Marks : 1

Question Key Details :

Key	Value
Comprehension	Comp4

Read the following passage and answer the questions given below:

Sangeet Natak Akademi (SNA)

The SNA was established on 31 May 1952. In his speech at the inauguration on 28 January 1953, Maulana Azad (1888-1958), then Union Minister for Education and later founder of the Indian Council for Cultural Relations (ICCR), said that the aim of the SNA was to 'preserve our traditions by offering them an institutional form'.

The SNA's mission, stated in its Memorandum of Association is:

To promote research in the fields of Indian music, dance and drama and for this purpose to establish a library and a museum; to encourage the exchange of ideas and enrichment of techniques between the different regions in regard to the arts of music, dance and drama; to publish research on Indian performing arts; to revive and preserve folk traditions in different regions; to sponsor and encourage festival, seminars and conferences; to give recognition to individual artists for outstanding achievement; to foster cultural contacts between different regions of the country and with other countries; and to cooperate with similar Akademis, institutions and associations for the furtherance of these objectives

With respect to theatre, the SNA holds workshops for playwrights; funds interstate cultural exchange programmes; funds research in the traditional performing arts; offers financial support to cultural institutions; organizes festivals of modern theatre, traditional performance, shadow theatre, marionette theatre and other forms of puppetry; gives awards and fellowship to distinguished artists; collects audiotapes, videos and photographs; and maintains an audiovisual archive as well as a library.

Which among the following is NOT SNA's mission as stated in its Memorandum of Association?

1. To promote research in the fields of Indian Visual Arts
2. To publish research on Indian Performing Arts
3. To revive and preserve folk traditions in different regions
4. To sponsor and encourage festivals, seminars and conferences

Options :

485584134533. 1
485584134534. 2
485584134535. 3
485584134536. 4

Question Number : 319 Question Id : 48558433634 Question Type : MCQ Option Shuffling : No Is Question Mandatory : No Calculator : None Response Time : N.A Think Time : N.A Minimum Instruction Time : 0

Correct Marks : 5 Wrong Marks : 1

Question Key Details :

Key	Value
Comprehension	Comp4

निम्नलिखित गद्यांश को ध्यानपूर्वक पढ़कर दिये गये प्रश्नों के उत्तर दीजिये।

संगीत नाटक अकादमी (SNA)

संगीत नाटक अकादमी की स्थापना 31 मई 1952 में हुयी। 18 जनवरी 1953 को तत्कालीन केन्द्रीय शिक्षा मंत्री और उसके बाद भारतीय सांस्कृतिक संबंध परिषद (ICCR) के संस्थापक मौलाना आज़ाद (1888-1958) ने अपने उद्घाटन भाषण में कहा कि संगीत नाटक अकादमी की स्थापना का उद्देश्य हमारी परंपराओं को संस्थानिक रूप देकर संरक्षित करना है।

संगीत नाटक अकादमी (SNA) का उद्देश्य, उसके संघ के परिपत्र में निर्दिष्ट है:

भारतीय संगीत, नृत्य और नाट्य के क्षेत्र में अनुसंधान को प्रोत्साहन और इस हेतु पुस्कालय तथा संग्रहालय की स्थापना; विभिन्न क्षेत्रों के संगीत, नृत्य और नाट्य के संदर्भ में विचारों के आदान प्रदान तथा तकनीक में समृद्धि को प्रोत्साहन; भारतीय प्रदर्शन कलाओं के अनुसंधान का प्रकाशन, विभिन्न प्रदेशों के लोकनाटकों को पुनर्जीवित और संरक्षित करना, उत्सवों और समारोहों, गोष्ठियों और सम्मेलन प्रायोजित एवं प्रोत्साहित करना, विशेष उपलब्धियों के लिये वैयक्तिक कलाकारों को प्रतिष्ठा देना; देश के विभिन्न प्रदेशों और विदेशों के साथ, सांस्कृतिक संबंधों को प्रोत्साहन; और एक समान अकादमियों संस्थानों और संगठनों में इन उद्देश्यों की प्राप्ति हेतु समन्वय स्थापित करना।

रंगमंच के संदर्भ में, संगीत नाटक अकादमी नाट्यलेखकों के लिये कार्यशाला का आयोजन करती हैं, अंतरराज्यीय सांस्कृतिक कार्यक्रमों को धन राशि उपलब्ध कराती है; पारंपरिक प्रदर्शन कलाओं के अनुसंधान हेतु अनुदान देती है; सांस्कृतिक संस्थानों को वित्तीय सहायता देती है; आधुनिक रंगमंच, पारंपरिक प्रस्तुतियों, शोडो रंगमंच कठपुतली नाटक और इसी प्रकार की अन्य शैलियों हेतु समारोह आयोजित करती है; पुरस्कार और फेलोशिप देती है सम्मानित कलाकारों को आडियो टेप्स, वीडियो और छविचित्रों को एकत्र करती है; और दृश्य श्रव्य संग्रहालय और पुस्कालीय चलाती है।

निम्न में से कोन सा संगीत नाटक अकादमी का उद्देश्य नहीं है, जैसा संघ का परित्र मई कहा गया है?

1. भारतीय दृश्य कलाओं के क्षेत्र में अनुसन्धान को प्रोत्सित करना
2. भारतीय प्रदर्शन कलाओं के अनुसन्धान का प्रकाश
3. विभिन्न क्षेत्रों की लोकनाट्य परंपरों को पुनर्जीवित एवं संरक्षित करना
4. सम्हारो, गोष्ठी और सम्मलेन परियोजित और पोत्साहित करना

Options :

485584134533. 1
485584134534. 2
485584134535. 3
485584134536. 4

Question Number : 320 Question Id : 48558433635 Question Type : MCQ Option Shuffling : No Is Question Mandatory : No Calculator : None Response Time : N.A Think Time : N.A Minimum Instruction Time : 0

Correct Marks : 5 Wrong Marks : 1

Question Key Details :

Key	Value
Comprehension	Comp4

Read the following passage and answer the questions given below:

Sangeet Natak Akademi (SNA)

The SNA was established on 31 May 1952. In his speech at the inauguration on 28 January 1953, Maulana Azad (1888-1958), then Union Minister for Education and later founder of the Indian Council for Cultural Relations (ICCR), said that the aim of the SNA was to 'preserve our traditions by offering them an institutional form'.

The SNA's mission, stated in its Memorandum of Association is:

To promote research in the fields of Indian music, dance and drama and for this purpose to establish a library and a museum; to encourage the exchange of ideas and enrichment of techniques between the different regions in regard to the arts of music, dance and drama; to publish research on Indian performing arts; to revive and preserve folk traditions in different regions; to sponsor and encourage festival, seminars and conferences; to give recognition to individual artists for outstanding achievement; to foster cultural contacts between different regions of the country and with other countries; and to cooperate with similar Akademis, institutions and associations for the furtherance of these objectives

With respect to theatre, the SNA holds workshops for playwrights; funds interstate cultural exchange programmes; funds research in the traditional performing arts; offers financial support to cultural institutions; organizes festivals of modern theatre, traditional performance, shadow theatre, marionette theatre and other forms of puppetry; gives awards and fellowship to distinguished artists; collects audiotapes, videos and photographs; and maintains an audiovisual archive as well as a library.

According to the passage, identify the activities conducted by SNA, with respect to theatre.

- A. Funds international cultural exchange programmes
- B. Holds workshops for playwrights
- C. Funds research in the traditional Fine Arts
- D. Offers financial support to cultural institutions
- E. Gives awards and fellowships to distinguished artists

Choose the correct answer from the options given below:

- 1. A, B and D only
- 2. B, D and E only
- 3. B, C and E only
- 4. C, D and E only

Options :

- 485584134537. 1
- 485584134538. 2
- 485584134539. 3
- 485584134540. 4

Question Number : 320 Question Id : 48558433635 Question Type : MCQ Option Shuffling : No Is Question Mandatory : No Calculator : None Response Time : N.A Think Time : N.A Minimum Instruction Time : 0

Correct Marks : 5 Wrong Marks : 1

Question Key Details :

Key	Value
Comprehension	Comp4

निम्नलिखित गद्यांश को ध्यानपूर्वक पढ़कर दिये गये प्रश्नों के उत्तर दीजिये।

संगीत नाटक अकादमी (SNA)

संगीत नाटक अकादमी की स्थापना 31 मई 1952 में हुयी। 18 जनवरी 1953 को तत्कालीन केन्द्रीय शिक्षा मंत्री और उसके बाद भारतीय सांस्कृतिक संबंध परिषद (ICCR) के संस्थापक मौलाना आज़ाद (1888-1958) ने अपने उद्घाटन भाषण में कहा कि संगीत नाटक अकादमी की स्थापना का उद्देश्य हमारी परंपराओं को संस्थानिक रूप देकर संरक्षित करना है।

संगीत नाटक अकादमी (SNA) का उद्देश्य, उसके संघ के परिपत्र में निर्दिष्ट है:

भारतीय संगीत, नृत्य और नाट्य के क्षेत्र में अनुसंधान को प्रोत्साहन और इस हेतु पुस्कालय तथा संग्राहलय की स्थापना; विभिन्न क्षेत्रों के संगीत, नृत्य और नाट्य के संदर्भ में विचारों के आदान प्रदान तथा तकनीक में समृद्धि को प्रोत्साहन; भारतीय प्रदर्शन कलाओं के अनुसंधान का प्रकाशन, विभिन्न प्रदेशों के लोकनाटकों को पुनर्जीवित और संरक्षित करना, उत्सवों और समारोहों, गोष्ठियों और सम्मेलन प्रायोजित एवं प्रोत्साहित करना, विशेष उपलब्धियों के लिये वैयक्तिक कलाकारों को प्रतिष्ठा देना; देश के विभिन्न प्रदेशों और विदेशों के साथ, सांस्कृतिक संबंधों को प्रोत्साहन; और एक समान अकादमियों संस्थानों और संगठनों में इन उद्देश्यों की प्राप्ति हेतु समन्वय स्थापित करना।

रंगमंच के संदर्भ में, संगीत नाटक अकादमी नाट्यलेखकों के लिये कार्यशाला का आयोजन करती हैं, अंतरराज्यीय सांस्कृतिक कार्यक्रमों को धन राशि उपलब्ध कराती है; पारंपरिक प्रदर्शन कलाओं के अनुसंधान हेतु अनुदान देती है; सांस्कृतिक संस्थानों को वित्तीय सहायता देती है; आधुनिक रंगमंच, पारंपरिक प्रस्तुतियों, शोडो रंगमंच कठपुतली नाटक और इसी प्रकार की अन्य शैलियों हेतु समारोह आयोजित करती है; पुरस्कार और फेलोशिप देती है सम्मानित कलाकारों को आडियो टेप्स, वीडियो और छविचित्रों को एकत्र करती है; और दृश्य श्रव्य संग्रहालय और पुस्कालीय चलाती है।

गद्यांश के अनुसार उन कार्यों की पहचान कीजिये रंगमंच के संदर्भ में जिनका आयोजन संगीत नाटक अकादमी करती है

- A. अंतरराष्ट्रीय सांस्कृतिक आदान-प्रदान हेतु धन उपलब्ध करवाना
- B. नाट्य लेखकों के लिये कार्यशाला का आयोजन
- C. पारंपरिक ललित कलाओं हेतु वित्तीय सहायता
- D. सांस्कृतिक संस्थानों की वित्तीय सहायता
- E. कलाकारों को व्यक्तिगत रूप से पुरस्कार और फेलोशिप

नीचे दिए गए विकल्पों में से सही उत्तर का चयन कीजिए:

1. केवल A, B और D
2. केवल B, D और E
3. केवल B, C और E
4. केवल C, D और E

Options :

- 485584134537. 1
- 485584134538. 2
- 485584134539. 3
- 485584134540. 4

Section Id : 485584863
Section Number : 2
Section type : Online
Mandatory or Optional : Optional
Number of Questions : 25
Number of Questions to be attempted : 20
Section Marks : 100
Enable Mark as Answered Mark for Review and Clear Response : Yes
Maximum Instruction Time : 0
Sub-Section Number : 1
Sub-Section Id : 4855842438
Question Shuffling Allowed : Yes
Is Section Default? : null

Question Number : 321 Question Id : 48558433636 Question Type : MCQ Option Shuffling : No Is Question Mandatory : No Calculator : None Response Time : N.A Think Time : N.A Minimum Instruction Time : 0

Correct Marks : 5 Wrong Marks : 1

Question Key Details :

Key	Value
Comprehension	MCQ1

Writer of our National Anthem -

1. Bankim Chandra Chatterjee
2. Mohammad Iqbal
3. Rabindranath Tagore
4. V. N. Bhatkhande

Options :

485584134541. 1
485584134542. 2
485584134543. 3
485584134544. 4

Question Number : 321 Question Id : 48558433636 Question Type : MCQ Option Shuffling : No Is Question Mandatory : No Calculator : None Response Time : N.A Think Time : N.A Minimum Instruction Time : 0

Correct Marks : 5 Wrong Marks : 1

Question Key Details :

Key	Value
Comprehension	MCQ1

हमारे राष्ट्रगान के रचयिता हैं

1. बंकिम चन्द्र चटर्जी
2. मोहम्मद इकबाल
3. रवीन्द्र नाथ टैगोर
4. वी.एन.भातखण्डे

Options :

- 485584134541. 1
- 485584134542. 2
- 485584134543. 3
- 485584134544. 4

Question Number : 322 Question Id : 48558433637 Question Type : MCQ Option Shuffling : No Is Question Mandatory : No Calculator : None Response Time : N.A Think Time : N.A Minimum Instruction Time : 0

Correct Marks : 5 Wrong Marks : 1

Question Key Details :

Key	Value
Comprehension	MCQ1

While singing Raga Malkauns, the first string of the Tanpura is tuned in:

- 1. Nishad
- 2. Madhyam
- 3. Shadaj
- 4. Pancham

Options :

- 485584134545. 1
- 485584134546. 2
- 485584134547. 3
- 485584134548. 4

Question Number : 322 Question Id : 48558433637 Question Type : MCQ Option Shuffling : No Is Question Mandatory : No Calculator : None Response Time : N.A Think Time : N.A Minimum Instruction Time : 0

Correct Marks : 5 Wrong Marks : 1

Question Key Details :

Key	Value
Comprehension	MCQ1

राग मालकौंस को गाते समय, तानपुरा की प्रथम तंत्री निम्नांकित किसमें मिलाई जाती हैं?

- 1. निषाद
- 2. मध्यम
- 3. षडज
- 4. पंचम

Options :

- 485584134545. 1
- 485584134546. 2
- 485584134547. 3
- 485584134548. 4

Question Number : 323 Question Id : 48558433638 Question Type : MCQ Option Shuffling : No Is Question Mandatory : No Calculator : None Response Time : N.A Think Time : N.A Minimum Instruction Time : 0

Correct Marks : 5 Wrong Marks : 1

Question Key Details :

Key	Value
Comprehension	MCQ1

Kramik Pustak Malika is written by

1. Pt. V. D. Paluskar
2. Pt. Omkar Nath Thakur
3. Ravindranath Tagore
4. Pt. V. N. Bhatkhande

Options :

485584134549. 1
485584134550. 2
485584134551. 3
485584134552. 4

Question Number : 323 Question Id : 48558433638 Question Type : MCQ Option Shuffling : No Is Question Mandatory : No Calculator : None Response Time : N.A Think Time : N.A Minimum Instruction Time : 0

Correct Marks : 5 Wrong Marks : 1

Question Key Details :

Key	Value
Comprehension	MCQ1

क्रमिक पुस्तक मालिका के लेखक हैं:-

1. पण्डित वी.डी. पलुस्कर
2. पण्डित ओंकारनाथ ठाकुर
3. रवीन्द्रनाथ टैगोर
4. पण्डित वी.एन भातखण्डे

Options :

485584134549. 1
485584134550. 2
485584134551. 3
485584134552. 4

Question Number : 324 Question Id : 48558433639 Question Type : MCQ Option Shuffling : No Is Question Mandatory : No Calculator : None Response Time : N.A Think Time : N.A Minimum Instruction Time : 0

Correct Marks : 5 Wrong Marks : 1

Question Key Details :

Key	Value
Comprehension	MCQ1

Shadav - Audav Jati has:

1. 6 Swaras in Aroha and 7 Swaras in Avaroha
2. 6 Swaras in Aroha and 5 Swaras in Avaroha
3. 6 Swaras in Aroha and 6 Swaras in Avaroha
4. 5 Swaras in Aroha and 6 Swaras in Avaroha

Options :

485584134553. 1
485584134554. 2
485584134555. 3
485584134556. 4

Question Number : 324 Question Id : 48558433639 Question Type : MCQ Option Shuffling : No Is Question Mandatory : No Calculator : None Response Time : N.A Think Time : N.A Minimum Instruction Time : 0

Correct Marks : 5 Wrong Marks : 1

Question Key Details :

Key	Value
Comprehension	MCQ1

षाडव-औडव जाति में:-

1. आरोह में 6 स्वर और अवरोह में स्वर होते हैं।
2. आरोह में 6 स्वर और अवरोह में 5 स्वर होते हैं।
3. आरोह में 6 स्वर और अवरोह में 6 स्वर होते हैं।
4. आरोह में 5 स्वर और अवरोह में 6 स्वर होते हैं।

Options :

485584134553. 1
485584134554. 2
485584134555. 3
485584134556. 4

Question Number : 325 Question Id : 48558433640 Question Type : MCQ Option Shuffling : No Is Question Mandatory : No Calculator : None Response Time : N.A Think Time : N.A Minimum Instruction Time : 0

Correct Marks : 5 Wrong Marks : 1

Question Key Details :

Key	Value
Comprehension	MCQ1

It is also called 'Sparsh' Swara :

1. Alankar
2. Vadi
3. Kan
4. Khatka

Options :

485584134557. 1
485584134558. 2
485584134559. 3
485584134560. 4

Question Number : 325 Question Id : 48558433640 Question Type : MCQ Option Shuffling : No Is Question Mandatory : No Calculator : None Response Time : N.A Think Time : N.A Minimum Instruction Time : 0

Correct Marks : 5 Wrong Marks : 1

Question Key Details :

Key	Value
Comprehension	MCQ1

इसे 'स्पर्श स्वर' भी कहा जाता है:-

1. अलंकार
2. वादी
3. कण
4. खटका

Options :

485584134557. 1
485584134558. 2
485584134559. 3
485584134560. 4

Question Number : 326 Question Id : 48558433641 Question Type : MCQ Option Shuffling : No Is Question Mandatory : No Calculator : None Response Time : N.A Think Time : N.A Minimum Instruction Time : 0

Correct Marks : 5 Wrong Marks : 1

Question Key Details :

Key	Value
Comprehension	MCQ1

The first beat (Matra) of the Tala is called:

1. Khali
2. Avartan
3. Tali
4. Sam

Options :

485584134561. 1
485584134562. 2
485584134563. 3
485584134564. 4

Question Number : 326 Question Id : 48558433641 Question Type : MCQ Option Shuffling : No Is Question Mandatory : No Calculator : None Response Time : N.A Think Time : N.A Minimum Instruction Time : 0

Correct Marks : 5 Wrong Marks : 1

Question Key Details :

Key	Value
Comprehension	MCQ1

ताल की प्रथम मात्रा कहलाती है:

1. खाली
2. आवर्तन
3. ताली
4. सम

Options :

485584134561. 1
485584134562. 2
485584134563. 3
485584134564. 4

Question Number : 327 Question Id : 48558433642 Question Type : MCQ Option Shuffling : No Is Question Mandatory : No Calculator : None Response Time : N.A Think Time : N.A Minimum Instruction Time : 0

Correct Marks : 5 Wrong Marks : 1

Question Key Details :

Key	Value
Comprehension	MCQ1

A set of notes to identify a Raga is called:

1. Aroha
2. Avaroha
3. Alap
4. Pakad

Options :

485584134565. 1
485584134566. 2
485584134567. 3
485584134568. 4

Question Number : 327 Question Id : 48558433642 Question Type : MCQ Option Shuffling : No Is Question Mandatory : No Calculator : None Response Time : N.A Think Time : N.A Minimum Instruction Time : 0

Correct Marks : 5 Wrong Marks : 1

Question Key Details :

Key	Value
Comprehension	MCQ1

किसी राग को पहचानने हेतु स्वर समुदाय को कहा जाता है

1. आरोह
2. अवरोह
3. आलाप
4. पकड़

Options :

485584134565. 1
485584134566. 2
485584134567. 3
485584134568. 4

Question Number : 328 Question Id : 48558433643 Question Type : MCQ Option Shuffling : No Is Question Mandatory : No Calculator : None Response Time : N.A Think Time : N.A Minimum Instruction Time : 0

Correct Marks : 5 Wrong Marks : 1

Question Key Details :

Key	Value
Comprehension	MCQ1

Elaboration of notes of a Raga in slow tempo is known as:

1. Gram
2. Murchhana
3. Tana
4. Alap

Options :

485584134569. 1
485584134570. 2
485584134571. 3
485584134572. 4

Question Number : 328 Question Id : 48558433643 Question Type : MCQ Option Shuffling : No Is Question Mandatory : No Calculator : None Response Time : N.A Think Time : N.A Minimum Instruction Time : 0

Correct Marks : 5 Wrong Marks : 1

Question Key Details :

Key	Value
Comprehension	MCQ1

धीमी गति में किसी राग के स्वरों का विस्तार कहलाता है:

1. ग्राम
2. मूर्च्छना
3. तान
4. आलाप

Options :

485584134569. 1
485584134570. 2
485584134571. 3
485584134572. 4

Question Number : 329 Question Id : 48558433644 Question Type : MCQ Option Shuffling : No Is Question Mandatory : No Calculator : None Response Time : N.A Think Time : N.A Minimum Instruction Time : 0

Correct Marks : 5 Wrong Marks : 1

Question Key Details :

Key	Value
Comprehension	MCQ1

Mushtaq Ali Khan belonged to:

1. Jaipur Gharana
2. Senia Gharana
3. Kirana Gharana
4. Agra Gharana

Options :

485584134573. 1
485584134574. 2
485584134575. 3
485584134576. 4

Question Number : 329 Question Id : 48558433644 Question Type : MCQ Option Shuffling : No Is Question Mandatory : No Calculator : None Response Time : N.A Think Time : N.A Minimum Instruction Time : 0

Correct Marks : 5 Wrong Marks : 1

Question Key Details :

Key	Value
Comprehension	MCQ1

मुश्ताक अली किस घराने से संबंधित है:

1. जयपुर घराना
2. सोनिया घराना
3. किराना घराना
4. आगरा घराना

Options :

485584134573. 1
485584134574. 2
485584134575. 3
485584134576. 4

Question Number : 330 Question Id : 48558433645 Question Type : MCQ Option Shuffling : No Is Question Mandatory : No Calculator : None Response Time : N.A Think Time : N.A Minimum Instruction Time : 0

Correct Marks : 5 Wrong Marks : 1

Question Key Details :

Key	Value
Comprehension	MCQ1

Tala played with Maseetkhani Gat is:

1. Ektala
2. Teentala
3. Sooltala
4. Keharwa

Options :

485584134577. 1
485584134578. 2
485584134579. 3
485584134580. 4

Question Number : 330 Question Id : 48558433645 Question Type : MCQ Option Shuffling : No Is Question Mandatory : No Calculator : None Response Time : N.A Think Time : N.A Minimum Instruction Time : 0

Correct Marks : 5 Wrong Marks : 1

Question Key Details :

Key	Value
Comprehension	MCQ1

मसीतखानी गत के साथ कौन-से ताल का वादन किया जाता है?

1. एकताल
2. तीनताल
3. सूलताल
4. कहरवा

Options :

485584134577. 1
485584134578. 2
485584134579. 3
485584134580. 4

Question Number : 331 Question Id : 48558433646 Question Type : MCQ Option Shuffling : No Is Question Mandatory : No Calculator : None Response Time : N.A Think Time : N.A Minimum Instruction Time : 0

Correct Marks : 5 Wrong Marks : 1

Question Key Details :

Key	Value
Comprehension	MCQ1

The first half of the Saptak is called:

1. Uttarang
2. Purvang
3. Aroha
4. Avaroha

Options :

485584134581. 1
485584134582. 2
485584134583. 3
485584134584. 4

Question Number : 331 Question Id : 48558433646 Question Type : MCQ Option Shuffling : No Is Question Mandatory : No Calculator : None Response Time : N.A Think Time : N.A Minimum Instruction Time : 0

Correct Marks : 5 Wrong Marks : 1

Question Key Details :

Key	Value
Comprehension	MCQ1

सप्तक का प्रथमार्ध कहलाता है:-

1. उत्तरांग
2. पूर्वांग
3. आरोह
4. अवरोह

Options :

485584134581. 1
485584134582. 2
485584134583. 3
485584134584. 4

Question Number : 332 Question Id : 48558433647 Question Type : MCQ Option Shuffling : No Is Question Mandatory : No Calculator : None Response Time : N.A Think Time : N.A Minimum Instruction Time : 0

Correct Marks : 5 Wrong Marks : 1

Question Key Details :

Key	Value
Comprehension	MCQ1

Mention the tala with anga's Drutam + Laghu

1. Adi tala
2. Roopaka tala
3. Chapu tala
4. Triputa tala

Options :

485584134585. 1
485584134586. 2
485584134587. 3
485584134588. 4

Question Number : 332 Question Id : 48558433647 Question Type : MCQ Option Shuffling : No Is Question Mandatory : No Calculator : None Response Time : N.A Think Time : N.A Minimum Instruction Time : 0

Correct Marks : 5 Wrong Marks : 1

Question Key Details :

Key	Value
Comprehension	MCQ1

द्रुतम + लघु अंगों वाले ताल को उल्लिखित कीजिए

1. आदिताल
2. रूपक ताल
3. चापुताल
4. त्रिपुट ताल

Options :

485584134585. 1
485584134586. 2
485584134587. 3
485584134588. 4

Question Number : 333 Question Id : 48558433648 Question Type : MCQ Option Shuffling : No Is Question Mandatory : No Calculator : None Response Time : N.A Think Time : N.A Minimum Instruction Time : 0

Correct Marks : 5 Wrong Marks : 1

Question Key Details :

Key	Value
Comprehension	MCQ1

Laya of Musical composition in fast tempo is known as:

1. Sama laya
2. Drut laya
3. Vilambit laya
4. Madhya laya

Options :

485584134589. 1
485584134590. 2
485584134591. 3
485584134592. 4

Question Number : 333 Question Id : 48558433648 Question Type : MCQ Option Shuffling : No Is Question Mandatory : No Calculator : None Response Time : N.A Think Time : N.A Minimum Instruction Time : 0

Correct Marks : 5 Wrong Marks : 1

Question Key Details :

Key	Value
Comprehension	MCQ1

तीव्र गति की संगीत रचना के लय को कहते है:

1. समा लय
2. द्रुत लय
3. विलम्बित लय
4. मध्य लय

Options :

485584134589. 1
485584134590. 2
485584134591. 3
485584134592. 4

Question Number : 334 Question Id : 48558433649 Question Type : MCQ Option Shuffling : No Is Question Mandatory : No Calculator : None Response Time : N.A Think Time : N.A Minimum Instruction Time : 0

Correct Marks : 5 Wrong Marks : 1

Question Key Details :

Key	Value
Comprehension	MCQ1

What is the original name of Purandaradas?

1. Venkatesa
2. Shreenivasa
3. Sreedhara
4. Vasudeva

Options :

485584134593. 1
485584134594. 2
485584134595. 3
485584134596. 4

Question Number : 334 Question Id : 48558433649 Question Type : MCQ Option Shuffling : No Is Question Mandatory : No Calculator : None Response Time : N.A Think Time : N.A Minimum Instruction Time : 0

Correct Marks : 5 Wrong Marks : 1

Question Key Details :

Key	Value
Comprehension	MCQ1

पुरन्दरदास का मूल नाम था:-

1. वेंकटेश
2. श्रीनिवास
3. श्रीधर
4. वासुदेव

Options :

485584134593. 1
485584134594. 2
485584134595. 3
485584134596. 4

Question Number : 335 Question Id : 48558433650 Question Type : MCQ Option Shuffling : No Is Question Mandatory : No Calculator : None Response Time : N.A Think Time : N.A Minimum Instruction Time : 0

Correct Marks : 5 Wrong Marks : 1

Question Key Details :

Key	Value
Comprehension	MCQ1

Select the tala which has 7 Aksharakalas/Matra

1. Roopakam / Dadra
2. Adi Tala / Teental
3. Chaputala / Roopak
4. Jhampa Tala / Jhaptal

Options :

485584134597. 1
485584134598. 2
485584134599. 3
485584134600. 4

Question Number : 335 Question Id : 48558433650 Question Type : MCQ Option Shuffling : No Is Question Mandatory : No Calculator : None Response Time : N.A Think Time : N.A Minimum Instruction Time : 0

Correct Marks : 5 Wrong Marks : 1

Question Key Details :

Key	Value
Comprehension	MCQ1

निम्नलिखित में से 7 अक्षरकाल/मात्रा ताल को चुनिए:

1. रूपकम/ दादरा
2. आदि/ तीनताल
3. चपुताल/ रूपक
4. झम्पा ताल / झपताल

Options :

485584134597. 1
485584134598. 2
485584134599. 3
485584134600. 4

Question Number : 336 Question Id : 48558433651 Question Type : MCQ Option Shuffling : No Is Question Mandatory : No Calculator : None Response Time : N.A Think Time : N.A Minimum Instruction Time : 0

Correct Marks : 5 Wrong Marks : 1

Question Key Details :

Key	Value
Comprehension	MCQ1

Select the Audava raga from the following:

1. Shankarabharanam
2. Kalyani
3. Sri Ranjani
4. Hindolam

Options :

485584134601. 1
485584134602. 2
485584134603. 3
485584134604. 4

Question Number : 336 Question Id : 48558433651 Question Type : MCQ Option Shuffling : No Is Question Mandatory : No Calculator : None Response Time : N.A Think Time : N.A Minimum Instruction Time : 0

Correct Marks : 5 Wrong Marks : 1

Question Key Details :

Key	Value
Comprehension	MCQ1

निम्नलिखित में से औडव राग के चुनिए:

1. शंकराभरनम
2. कल्याणी
3. श्री रंजनी
4. हिंडोलम

Options :

485584134601. 1
485584134602. 2
485584134603. 3
485584134604. 4

Question Number : 337 Question Id : 48558433652 Question Type : MCQ Option Shuffling : No Is Question Mandatory : No Calculator : None Response Time : N.A Think Time : N.A Minimum Instruction Time : 0

Correct Marks : 5 Wrong Marks : 1

Question Key Details :

Key	Value
Comprehension	MCQ1

The sound emanating from the stringed instruments is known as:

1. Shareeraja
2. Lohaja
3. Charmaja
4. Vayuja

Options :

485584134605. 1
485584134606. 2
485584134607. 3
485584134608. 4

Question Number : 337 Question Id : 48558433652 Question Type : MCQ Option Shuffling : No Is Question Mandatory : No Calculator : None Response Time : N.A Think Time : N.A Minimum Instruction Time : 0

Correct Marks : 5 Wrong Marks : 1

Question Key Details :

Key	Value
Comprehension	MCQ1

तंत्रीयुक्त वाद्य यंत्र से उत्पन्न ध्वनि रहलाती है:

1. शरीरज
2. लोहज
3. चर्मज
4. वायुज

Options :

485584134605. 1
485584134606. 2
485584134607. 3
485584134608. 4

Question Number : 338 Question Id : 48558433653 Question Type : MCQ Option Shuffling : No Is Question Mandatory : No Calculator : None Response Time : N.A Think Time : N.A Minimum Instruction Time : 0

Correct Marks : 5 Wrong Marks : 1

Question Key Details :

Key	Value
Comprehension	MCQ1

A musical form which needs high creative ability:

1. Kriti
2. Padam
3. Pallavi
4. Tillana

Options :

485584134609. 1
485584134610. 2
485584134611. 3
485584134612. 4

Question Number : 338 Question Id : 48558433653 Question Type : MCQ Option Shuffling : No Is Question Mandatory : No Calculator : None Response Time : N.A Think Time : N.A Minimum Instruction Time : 0

Correct Marks : 5 Wrong Marks : 1

Question Key Details :

Key	Value
Comprehension	MCQ1

संगीत की विद्या जिसमें उच्च सृजनात्मक योजना अपेक्षित है:

1. कीर्ति
2. पदम
3. पल्लवी
4. तिल्लाना

Options :

485584134609. 1
485584134610. 2
485584134611. 3
485584134612. 4

Question Number : 339 Question Id : 48558433654 Question Type : MCQ Option Shuffling : No Is Question Mandatory : No Calculator : None Response Time : N.A Think Time : N.A Minimum Instruction Time : 0

Correct Marks : 5 Wrong Marks : 1

Question Key Details :

Key	Value
Comprehension	MCQ1

Sa Re Ga Ma Pa Dha Ni swaras belong to:

1. Bhairavi Thata
2. Kafi Thata
3. Asavari Thata
4. Khamaj Thata

Options :

485584134613. 1
485584134614. 2
485584134615. 3
485584134616. 4

Question Number : 339 Question Id : 48558433654 Question Type : MCQ Option Shuffling : No Is Question Mandatory : No Calculator : None Response Time : N.A Think Time : N.A Minimum Instruction Time : 0

Correct Marks : 5 Wrong Marks : 1

Question Key Details :

Key	Value
Comprehension	MCQ1

सा रे गा मा प धा नी स्वरों का संबंध किससे है:

1. भैरवी थाट
2. काफी थाट
3. असावरी थाट
4. खमाज थाट

Options :

485584134613. 1
485584134614. 2
485584134615. 3
485584134616. 4

Question Number : 340 Question Id : 48558433655 Question Type : MCQ Option Shuffling : No Is Question Mandatory : No Calculator : None Response Time : N.A Think Time : N.A Minimum Instruction Time : 0

Correct Marks : 5 Wrong Marks : 1

Question Key Details :

Key	Value
Comprehension	MCQ1

Select two 'THATA' / MELA from the following:

- A. Kalyan / Kalyani
- B. Malkauns / Hindolam
- C. Bhupali / Mohanam
- D. Bhairav / Mayamalavganla
- E. Bageshree / Sriranjani

Choose the correct answer from the options given below:

- 1. A and B only
- 2. B and C only
- 3. A and D only
- 4. B and E only

Options :

- 485584134617. 1
- 485584134618. 2
- 485584134619. 3
- 485584134620. 4

Question Number : 340 Question Id : 48558433655 Question Type : MCQ Option Shuffling : No Is Question Mandatory : No Calculator : None Response Time : N.A Think Time : N.A Minimum Instruction Time : 0

Correct Marks : 5 Wrong Marks : 1

Question Key Details :

Key	Value
Comprehension	MCQ1

निम्नांकित में से दो 'थाट' / मेला का चयन कीजिए:

- A. कल्याण / कल्याणी
- B. मालकौंस / हिंडोलम
- C. भूपाली / मोहनम
- D. भैरव / मायामालवंगौला
- E. बागेश्री / श्री रंजनी

नीचे दिए गए विकल्पों में से सही उत्तर चुनिए:

- 1. केवल A और B
- 2. केवल B और C
- 3. केवल A और D
- 4. केवल B और E

Options :

- 485584134617. 1
- 485584134618. 2
- 485584134619. 3
- 485584134620. 4

Question Number : 341 Question Id : 48558433656 Question Type : MCQ Option Shuffling : No Is Question Mandatory : No Calculator : None Response Time : N.A Think Time : N.A Minimum Instruction Time : 0

Correct Marks : 5 Wrong Marks : 1

Question Key Details :

Key	Value
Comprehension	MCQ1

Three qualities of Nad are:

- A. Swara
- B. Pitch
- C. Intensity
- D. Alankar
- E. Timbre

Choose the correct answer from the options given below:

- 1. A, B and C only
- 2. B, C and E only
- 3. A, D and E only
- 4. B, C and D only

Options :

- 485584134621. 1
- 485584134622. 2
- 485584134623. 3
- 485584134624. 4

Question Number : 341 Question Id : 48558433656 Question Type : MCQ Option Shuffling : No Is Question Mandatory : No Calculator : None Response Time : N.A Think Time : N.A Minimum Instruction Time : 0

Correct Marks : 5 Wrong Marks : 1

Question Key Details :

Key	Value
Comprehension	MCQ1

नाद के तीन गुण है:

- A. स्वर
- B. तारता
- C. तीव्रता
- D. अलंकार
- E. ध्वनि गुणता

नीचे दिए गए विकल्पों में से सही उत्तर चुनिए:

1. केवल A, B और C
2. केवल B, C और E
3. केवल A, D और E
4. केवल B, C और D

Options :

- 485584134621. 1
- 485584134622. 2
- 485584134623. 3
- 485584134624. 4

Question Number : 342 Question Id : 48558433657 Question Type : MCQ Option Shuffling : No Is Question Mandatory : No Calculator : None Response Time : N.A Think Time : N.A Minimum Instruction Time : 0

Correct Marks : 5 Wrong Marks : 1

Question Key Details :

Key	Value
Comprehension	MCQ1

Match List I with List II

LIST I		LIST II	
A.	Vilambit Khayal	I.	Tillana
B.	Tarana	II.	Kriti
C.	Thumri	III.	Maseetkhani Gat
D.	Khayal	IV.	Padam

Choose the correct answer from the options given below:

1. A-I, B-III, C-II, D-IV
2. A-II, B-I, C-IV, D-III
3. A-III, B-I, C-IV, D-II
4. A-IV, B-II, C-I, D-III

Options :

- 485584134625. 1
- 485584134626. 2
- 485584134627. 3
- 485584134628. 4

Question Number : 342 Question Id : 48558433657 Question Type : MCQ Option Shuffling : No Is Question Mandatory : No Calculator : None Response Time : N.A Think Time : N.A Minimum Instruction Time : 0

Correct Marks : 5 Wrong Marks : 1

Question Key Details :

Key	Value
Comprehension	MCQ1

सूची I और सूची II से सुमेलित कीजिए

सूची I		सूची II	
A.	विलंबित खयाल	I.	तिल्लाना
B.	तराना	II.	कृति
C.	ठुमरी	III.	मसीतखानी गत
D.	छोटा	IV.	पदम

नीचे दिए गए विकल्पों में से सही उत्तर चुनिए:

1. A-I, B-III, C-II, D-IV

2. A-II, B-I, C-IV, D-II

3. A-III, B-I, C-IV, D-II

4. A-IV, B-II, C-I, D-III

Options :

485584134625. 1

485584134626. 2

485584134627. 3

485584134628. 4

Question Number : 343 Question Id : 48558433658 Question Type : MCQ Option Shuffling : No Is Question Mandatory : No Calculator : None Response Time : N.A Think Time : N.A Minimum Instruction Time : 0

Correct Marks : 5 Wrong Marks : 1

Question Key Details :

Key	Value
Comprehension	MCQ1

Match List I with List II

LIST I		LIST II	
A.	Nada	I.	Avroha
B.	Shruti	II.	Vivadi
C.	Swara	III.	Pramana
D.	Scale	IV.	Ahata

Choose the correct answer from the options given below:

1. A-I, B-II, C-III, D-IV
2. A-II, B-III, C-IV, D-I
3. A-III, B-IV, C-I, D-II
4. A-IV, B-III, C-II, D-I

Options :

485584134629. 1
485584134630. 2
485584134631. 3
485584134632. 4

Question Number : 343 Question Id : 48558433658 Question Type : MCQ Option Shuffling : No Is Question Mandatory : No Calculator : None Response Time : N.A Think Time : N.A Minimum Instruction Time : 0

Correct Marks : 5 Wrong Marks : 1

Question Key Details :

Key	Value
Comprehension	MCQ1

सूची I और सूची II को सुमेलित कीजिए

सूची I		सूची II	
A.	नाद	I.	अवरोह
B.	श्रुति	II.	विवादी
C.	स्वर	III.	प्रमाण
D.	सप्तक	IV.	आहत

नीचे दिए गए विकल्पों में सही उत्तर का चाहिए:

1. A-I, B-II, C-III, D-IV
2. A-II, B-III, C-IV, D-I
3. A-III, B-IV, C-I, D-II
4. A-IV, B-III, C-II, D-I

Options :

485584134629. 1
485584134630. 2
485584134631. 3
485584134632. 4

Question Number : 344 Question Id : 48558433659 Question Type : MCQ Option Shuffling : No Is Question Mandatory : No Calculator : None Response Time : N.A Think Time : N.A Minimum Instruction Time : 0

Correct Marks : 5 Wrong Marks : 1

Question Key Details :

Key	Value
Comprehension	MCQ1

Arrange the Talas according to their ascending order of Matras:

- A. Ektala
- B. Keharwa
- C. Dadra
- D. Jhaptala
- E. Teentala

Choose the correct answer from the options given below:

- 1. A, B, C, D, E
- 2. A, C, B, D, E
- 3. C, B, D, A, E
- 4. C, B, A, D, E

Options :

- 485584134633. 1
- 485584134634. 2
- 485584134635. 3
- 485584134636. 4

Question Number : 344 Question Id : 48558433659 Question Type : MCQ Option Shuffling : No Is Question Mandatory : No Calculator : None Response Time : N.A Think Time : N.A Minimum Instruction Time : 0

Correct Marks : 5 Wrong Marks : 1

Question Key Details :

Key	Value
Comprehension	MCQ1

मात्राओं के बढ़ते क्रम के अनुसार निम्नांकित ताल को व्यवस्थित कीजिए.

- A. एकताल
- B. केहरवा
- C. दादरा
- D. झपताल
- E. तीनताल

नीचे दिए गए विकल्पों में से सही उत्तर का चयन कीजिए:

1. A, B, C, D, E
2. A, C, B, D, E
3. C, B, D, A, E
4. C, B, A, D, E

Options :

- 485584134633. 1
- 485584134634. 2
- 485584134635. 3
- 485584134636. 4

Question Number : 345 Question Id : 48558433660 Question Type : MCQ Option Shuffling : No Is Question Mandatory : No Calculator : None Response Time : N.A Think Time : N.A Minimum Instruction Time : 0

Correct Marks : 5 Wrong Marks : 1

Question Key Details :

Key	Value
Comprehension	MCQ1

Arrange the swaras of Raga Bhupali / Mohanam according to its Avaroha:

- A. Pa
- B. Re
- C. Ga
- D. Dha
- E. Sa

Choose the correct answer from the options given below:

1. A, B, C, E, D
2. D, A, C, B, E
3. E, B, C, A, D
4. E, D, A, C, B

Options :

- 485584134637. 1
- 485584134638. 2
- 485584134639. 3
- 485584134640. 4

Question Number : 345 Question Id : 48558433660 Question Type : MCQ Option Shuffling : No Is Question Mandatory : No Calculator : None Response Time : N.A Think Time : N.A Minimum Instruction Time : 0

Correct Marks : 5 Wrong Marks : 1

Question Key Details :

Key	Value
Comprehension	MCQ1

राग भूपाली/ मोहनम के स्वरों को उनके अवरोह के अनुसार व्यवस्थित कीजिए

- A. पा
- B. रे
- C. गा
- D. धा
- E. सा

नीचे दिए गए विकल्पों में से सही उत्तर का चयन कीजिए:

- 1. A, B, C, E, D
- 2. D, A, C, B, E
- 3. E, B, C, A, D
- 4. E, D, A, C, B

Options :

- 485584134637. 1
- 485584134638. 2
- 485584134639. 3
- 485584134640. 4

Dance

Section Id :	485584864
Section Number :	3
Section type :	Online
Mandatory or Optional :	Optional
Number of Questions :	25
Number of Questions to be attempted :	20
Section Marks :	100
Enable Mark as Answered Mark for Review and Clear Response :	Yes
Maximum Instruction Time :	0
Sub-Section Number :	1
Sub-Section Id :	4855842439
Question Shuffling Allowed :	Yes
Is Section Default? :	null

Question Number : 346 Question Id : 48558433661 Question Type : MCQ Option Shuffling : No Is Question Mandatory : No Calculator : None Response Time : N.A Think Time : N.A Minimum Instruction Time : 0

Correct Marks : 5 Wrong Marks : 1

Question Key Details :

Key	Value
-----	-------

Comprehension	MCQ2
---------------	------

"Uddipan" and "Aalamban" are the types of -

1. Vibhav
2. Anubhav
3. Aangik
4. Vachik

Options :

485584134641. 1
485584134642. 2
485584134643. 3
485584134644. 4

Question Number : 346 Question Id : 48558433661 Question Type : MCQ Option Shuffling : No Is Question Mandatory : No Calculator : None Response Time : N.A Think Time : N.A Minimum Instruction Time : 0

Correct Marks : 5 Wrong Marks : 1

Question Key Details :

Key	Value
Comprehension	MCQ2

"उद्दीपन" और "आलम्बन" प्रकार हैं-

1. विभाव
2. अनुभाव
3. आंगिक
4. वाचिक

Options :

485584134641. 1
485584134642. 2
485584134643. 3
485584134644. 4

Question Number : 347 Question Id : 48558433662 Question Type : MCQ Option Shuffling : No Is Question Mandatory : No Calculator : None Response Time : N.A Think Time : N.A Minimum Instruction Time : 0

Correct Marks : 5 Wrong Marks : 1

Question Key Details :

Key	Value
Comprehension	MCQ2

What is the make-up artist's process called who applies cutti or chutti on actor-dancer's face in Kathakali?

1. Kattalan
2. Pitham
3. Chuttikaran
4. Talavattam

Options :

485584134645. 1
485584134646. 2
485584134647. 3
485584134648. 4

Question Number : 347 Question Id : 48558433662 Question Type : MCQ Option Shuffling : No Is Question Mandatory : No Calculator : None Response Time : N.A Think Time : N.A Minimum Instruction Time : 0

Correct Marks : 5 Wrong Marks : 1

Question Key Details :

Key	Value
Comprehension	MCQ2

वह रूप सज्जा की प्रक्रिया जिसमें कथकली के कलाकारों - नर्तकों के मुख पर कुट्टी या चुट्टी का प्रयोग होता है?

1. कत्रलन
2. पीथम
3. चुट्टीकरण
4. तालावत्तम

Options :

485584134645. 1
485584134646. 2
485584134647. 3
485584134648. 4

Question Number : 348 Question Id : 48558433663 Question Type : MCQ Option Shuffling : No Is Question Mandatory : No Calculator : None Response Time : N.A Think Time : N.A Minimum Instruction Time : 0

Correct Marks : 5 Wrong Marks : 1

Question Key Details :

Key	Value
Comprehension	MCQ2

"Abhinaya Chandrika" text is followed by -

1. Manipuri dancers
2. Odissi dancers
3. Kathakali dancers
4. Kathak dancers

Options :

485584134649. 1
485584134650. 2
485584134651. 3
485584134652. 4

Question Number : 348 Question Id : 48558433663 Question Type : MCQ Option Shuffling : No Is Question Mandatory : No Calculator : None Response Time : N.A Think Time : N.A Minimum Instruction Time : 0

Correct Marks : 5 Wrong Marks : 1

Question Key Details :

Key	Value
Comprehension	MCQ2

"अभिनय चंद्रिका" का पालन करते हैं-

1. मणिपुरी नर्तक
2. ओडिसी नर्तक
3. कथकली नर्तक
4. कथक नर्तक

Options :

485584134649. 1
485584134650. 2
485584134651. 3
485584134652. 4

Question Number : 349 Question Id : 48558433664 Question Type : MCQ Option Shuffling : No Is Question Mandatory : No Calculator : None Response Time : N.A Think Time : N.A Minimum Instruction Time : 0

Correct Marks : 5 Wrong Marks : 1

Question Key Details :

Key	Value
Comprehension	MCQ2

Which among the following is the famous 'couple dancer' of Kuchipudi dance style?

1. Singhajeet Singh and Charu Singh
2. Maulik Shah and Ishira Parekh
3. Raja and Radha Reddy
4. V. P. Dhananjayan and Shanta Dhananjayan

Options :

485584134653. 1
485584134654. 2
485584134655. 3
485584134656. 4

Question Number : 349 Question Id : 48558433664 Question Type : MCQ Option Shuffling : No Is Question Mandatory : No Calculator : None Response Time : N.A Think Time : N.A Minimum Instruction Time : 0

Correct Marks : 5 Wrong Marks : 1

Question Key Details :

Key	Value
Comprehension	MCQ2

निम्न में से कौन कुचीपुडी नृत्यशैली के नर्तक युगल हैं?

1. सिंहजीत सिंह और चारु सिंह
2. मौलिक शाह एवं इशिना परीक
3. राजा और राधा रेड्डी
4. वी.पी. धनन्जयन और शांता धनन्जयन

Options :

485584134653. 1
485584134654. 2
485584134655. 3
485584134656. 4

Question Number : 350 Question Id : 48558433665 Question Type : MCQ Option Shuffling : No Is Question Mandatory : No Calculator : None Response Time : N.A Think Time : N.A Minimum Instruction Time : 0

Correct Marks : 5 Wrong Marks : 1

Question Key Details :

Key	Value
Comprehension	MCQ2

Who is a Sattriya exponent among the following?

1. Jatin Goswami
2. V. P. Dhananjaya
3. Charan Girdhar Chand
4. Shashdhar Acharya

Options :

485584134657. 1
485584134658. 2
485584134659. 3
485584134660. 4

Question Number : 350 Question Id : 48558433665 Question Type : MCQ Option Shuffling : No Is Question Mandatory : No Calculator : None Response Time : N.A Think Time : N.A Minimum Instruction Time : 0

Correct Marks : 5 Wrong Marks : 1

Question Key Details :

Key	Value
Comprehension	MCQ2

इनमें से कौन सात्रिया के सिद्ध कलाकार हैं?

1. जतिन गोस्वामी
2. वी.पी. धनजयन
3. चरण गिरधर चांद
4. शशधर आचार्य

Options :

485584134657. 1
485584134658. 2
485584134659. 3
485584134660. 4

Question Number : 351 Question Id : 48558433666 Question Type : MCQ Option Shuffling : No Is Question Mandatory : No Calculator : None Response Time : N.A Think Time : N.A Minimum Instruction Time : 0

Correct Marks : 5 Wrong Marks : 1

Question Key Details :

Key	Value
Comprehension	MCQ2

What are head movements called in Abhinayadarpanam?

1. Shirobheda
2. Padabheda
3. Hastabheda
4. Drishtibheda

Options :

485584134661. 1
485584134662. 2
485584134663. 3
485584134664. 4

Question Number : 351 Question Id : 48558433666 Question Type : MCQ Option Shuffling : No Is Question Mandatory : No Calculator : None Response Time : N.A Think Time : N.A Minimum Instruction Time : 0

Correct Marks : 5 Wrong Marks : 1

Question Key Details :

Key	Value
Comprehension	MCQ2

अभिनय दर्पण में सिर संचालन को क्या कहा गया है?

1. शिरोभेदा
2. पदभेदा
3. हस्तभेदा
4. दृष्टिभेदा

Options :

485584134661. 1
485584134662. 2
485584134663. 3
485584134664. 4

Question Number : 352 Question Id : 48558433667 Question Type : MCQ Option Shuffling : No Is Question Mandatory : No Calculator : None Response Time : N.A Think Time : N.A Minimum Instruction Time : 0

Correct Marks : 5 Wrong Marks : 1

Question Key Details :

Key	Value
Comprehension	MCQ2

Which is the oldest university with Dance and Music Departments in Gujarat?

1. Benaras Hindu University
2. Rabindra Bharati University
3. The Maharaja Sayajirao university
4. Raja Mansingh Tomar University

Options :

485584134665. 1
485584134666. 2
485584134667. 3
485584134668. 4

Question Number : 352 Question Id : 48558433667 Question Type : MCQ Option Shuffling : No Is Question Mandatory : No Calculator : None Response Time : N.A Think Time : N.A Minimum Instruction Time : 0

Correct Marks : 5 Wrong Marks : 1

Question Key Details :

Key	Value
Comprehension	MCQ2

गुजरात के किस विश्वविद्यालय में सबसे पुराना नृत्य एवं संगीत विभाग है?

1. बनारस हिन्दु विश्वविद्यालय
2. रबिन्द्र भारती विश्वविद्यालय
3. महाराजा सियाजी राव विश्वविद्यालय
4. राजा मानसिंह तोमर विश्वविद्यालय

Options :

485584134665. 1
485584134666. 2
485584134667. 3
485584134668. 4

Question Number : 353 Question Id : 48558433668 Question Type : MCQ Option Shuffling : No Is Question Mandatory : No Calculator : None Response Time : N.A Think Time : N.A Minimum Instruction Time : 0

Correct Marks : 5 Wrong Marks : 1

Question Key Details :

Key	Value
Comprehension	MCQ2

"Gat" and "Gat Bhaav" are the items of which classical dance form?

1. Kathakali
2. Sattriya
3. Kathak
4. Bharatanatyam

Options :

485584134669. 1
485584134670. 2
485584134671. 3
485584134672. 4

Question Number : 353 Question Id : 48558433668 Question Type : MCQ Option Shuffling : No Is Question Mandatory : No Calculator : None Response Time : N.A Think Time : N.A Minimum Instruction Time : 0

Correct Marks : 5 Wrong Marks : 1

Question Key Details :

Key	Value
Comprehension	MCQ2

"गत" एवं "गत भाव" किस शास्त्रीय नृत्य शैली के अंतर्गत आते हैं?

1. कथकली
2. सत्रीय
3. कथक
4. भारतनाट्यम

Options :

485584134669. 1
485584134670. 2
485584134671. 3
485584134672. 4

Question Number : 354 Question Id : 48558433669 Question Type : MCQ Option Shuffling : No Is Question Mandatory : No Calculator : None Response Time : N.A Think Time : N.A Minimum Instruction Time : 0

Correct Marks : 5 Wrong Marks : 1

Question Key Details :

Key	Value
Comprehension	MCQ2

What is head gear called in Kathakali aharya?

1. Kalari
2. Sopanam
3. Kiritam
4. Vesham

Options :

485584134673. 1
485584134674. 2
485584134675. 3
485584134676. 4

Question Number : 354 Question Id : 48558433669 Question Type : MCQ Option Shuffling : No Is Question Mandatory : No Calculator : None Response Time : N.A Think Time : N.A Minimum Instruction Time : 0

Correct Marks : 5 Wrong Marks : 1

Question Key Details :

Key	Value
Comprehension	MCQ2

कथकली आहार्य में "हेड गियर को क्या कहा जाता है?

1. कलारी
2. सोपानम
3. किरीटम
4. वेशम

Options :

485584134673. 1
485584134674. 2
485584134675. 3
485584134676. 4

Question Number : 355 Question Id : 48558433670 Question Type : MCQ Option Shuffling : No Is Question Mandatory : No Calculator : None Response Time : N.A Think Time : N.A Minimum Instruction Time : 0

Correct Marks : 5 Wrong Marks : 1

Question Key Details :

Key	Value
Comprehension	MCQ2

'Geetam Vadyam tatha Nrityam tryam _____ muchyate' indicates:

1. Tandava
2. Nritta
3. Lasya
4. Sangeet

Options :

485584134677. 1
485584134678. 2
485584134679. 3
485584134680. 4

Question Number : 355 Question Id : 48558433670 Question Type : MCQ Option Shuffling : No Is Question Mandatory : No Calculator : None Response Time : N.A Think Time : N.A Minimum Instruction Time : 0

Correct Marks : 5 Wrong Marks : 1

Question Key Details :

Key	Value
Comprehension	MCQ2

'गीतम् वाद्यम् तथा नृत्यम् त्रियम् _____ मुच्येत' दर्शता है :

1. ताण्डव
2. नृत्ता
3. लास्य
4. संगीत

Options :

485584134677. 1
485584134678. 2
485584134679. 3
485584134680. 4

Question Number : 356 Question Id : 48558433671 Question Type : MCQ Option Shuffling : No Is Question Mandatory : No Calculator : None Response Time : N.A Think Time : N.A Minimum Instruction Time : 0

Correct Marks : 5 Wrong Marks : 1

Question Key Details :

Key	Value
Comprehension	MCQ2

What is the stylised representation called according to Natyashastra?

1. Bharati
2. Kaishiki
3. Vrittis
4. Natyadharmi

Options :

485584134681. 1
485584134682. 2
485584134683. 3
485584134684. 4

Question Number : 356 Question Id : 48558433671 Question Type : MCQ Option Shuffling : No Is Question Mandatory : No Calculator : None Response Time : N.A Think Time : N.A Minimum Instruction Time : 0

Correct Marks : 5 Wrong Marks : 1

Question Key Details :

Key	Value
Comprehension	MCQ2

शैलीबद्ध प्रस्तुतीकरण को नाटय शास्त्र के अनुसार क्या कहते हैं?

1. भारती
2. कैशिकी
3. वृत्ति
4. नाट्यधर्मी

Options :

485584134681. 1
485584134682. 2
485584134683. 3
485584134684. 4

Question Number : 357 Question Id : 48558433672 Question Type : MCQ Option Shuffling : No Is Question Mandatory : No Calculator : None Response Time : N.A Think Time : N.A Minimum Instruction Time : 0

Correct Marks : 5 Wrong Marks : 1

Question Key Details :

Key	Value
Comprehension	MCQ2

Chandra-Surya-Rakudi are worn by the dancer of :

1. Kathak
2. Bharatanatyam
3. Manipuri
4. Odissi

Options :

485584134685. 1
485584134686. 2
485584134687. 3
485584134688. 4

Question Number : 357 Question Id : 48558433672 Question Type : MCQ Option Shuffling : No Is Question Mandatory : No Calculator : None Response Time : N.A Think Time : N.A Minimum Instruction Time : 0

Correct Marks : 5 Wrong Marks : 1

Question Key Details :

Key	Value
Comprehension	MCQ2

कौन से नृत्य में चन्द्र-सूर्य-राकुडी को धारण किया जाता है:

1. कथक
2. भारतनाट्यम
3. मणिपुरी
4. ओडिसी

Options :

485584134685. 1
485584134686. 2
485584134687. 3
485584134688. 4

Question Number : 358 Question Id : 48558433673 Question Type : MCQ Option Shuffling : No Is Question Mandatory : No Calculator : None Response Time : N.A Think Time : N.A Minimum Instruction Time : 0

Correct Marks : 5 Wrong Marks : 1

Question Key Details :

Key	Value
Comprehension	MCQ2

Which abhinaya comprises rendering of text and lyrics according to Bharata?

1. Vachika
2. Angika
3. Aharya
4. Satvika

Options :

485584134689. 1
485584134690. 2
485584134691. 3
485584134692. 4

Question Number : 358 Question Id : 48558433673 Question Type : MCQ Option Shuffling : No Is Question Mandatory : No Calculator : None Response Time : N.A Think Time : N.A Minimum Instruction Time : 0

Correct Marks : 5 Wrong Marks : 1

Question Key Details :

Key	Value
Comprehension	MCQ2

नाट्यशास्त्र के अनुसार कथ्य और गीतों की प्रस्तुत किस प्रकार के अभिनय द्वारा होती है?

1. वाचिक
2. अंगिक
3. आहार्य
4. सात्विक

Options :

485584134689. 1
485584134690. 2
485584134691. 3
485584134692. 4

Question Number : 359 Question Id : 48558433674 Question Type : MCQ Option Shuffling : No Is Question Mandatory : No Calculator : None Response Time : N.A Think Time : N.A Minimum Instruction Time : 0

Correct Marks : 5 Wrong Marks : 1

Question Key Details :

Key	Value
Comprehension	MCQ2

In which dance, performers perform the compositions of Mahant Shankar Dev?

1. Mohiniattam
2. Kathak
3. Sattriya
4. Kuchipudi

Options :

485584134693. 1
485584134694. 2
485584134695. 3
485584134696. 4

Question Number : 359 Question Id : 48558433674 Question Type : MCQ Option Shuffling : No Is Question Mandatory : No Calculator : None Response Time : N.A Think Time : N.A Minimum Instruction Time : 0

Correct Marks : 5 Wrong Marks : 1

Question Key Details :

Key	Value
Comprehension	MCQ2

कौनसे नृत्य में प्रस्तुतकर्ता महन्त शंकरदेव की रचनाओं का प्रस्तुतिकरण करते हैं?

1. मोहिनीअट्टम
2. कथक
3. सत्रिय
4. कुचिपुडी

Options :

485584134693. 1
485584134694. 2
485584134695. 3
485584134696. 4

Question Number : 360 Question Id : 48558433675 Question Type : MCQ Option Shuffling : No Is Question Mandatory : No Calculator : None Response Time : N.A Think Time : N.A Minimum Instruction Time : 0

Correct Marks : 5 Wrong Marks : 1

Question Key Details :

Key	Value
Comprehension	MCQ2

What is the earthen pot musical instrument called?

1. Ghatam
2. Morsing
3. Nattuva talam
4. Gajje

Options :

485584134697. 1
485584134698. 2
485584134699. 3
485584134700. 4

Question Number : 360 Question Id : 48558433675 Question Type : MCQ Option Shuffling : No Is Question Mandatory : No Calculator : None Response Time : N.A Think Time : N.A Minimum Instruction Time : 0

Correct Marks : 5 Wrong Marks : 1

Question Key Details :

Key	Value
Comprehension	MCQ2

मिट्टी से बना घड़ा संगीत वाद्य क्या कहलाता है?

1. घटम
2. मोरसिंग
3. नट्टुवा तलम
4. गज्जी

Options :

485584134697. 1
485584134698. 2
485584134699. 3
485584134700. 4

Question Number : 361 Question Id : 48558433676 Question Type : MCQ Option Shuffling : No Is Question Mandatory : No Calculator : None Response Time : N.A Think Time : N.A Minimum Instruction Time : 0

Correct Marks : 5 Wrong Marks : 1

Question Key Details :

Key	Value
Comprehension	MCQ2

Percussion instruments used in classical dances:

- A. Dholak
- B. Tabla
- C. Mridangam
- D. Dholaki
- E. Khol

Choose the answer from the options given below:

1. A, C, D only
2. A, B, C only
3. A, D, E only
4. B, C, E only

Options :

- 485584134701. 1
- 485584134702. 2
- 485584134703. 3
- 485584134704. 4

Question Number : 361 Question Id : 48558433676 Question Type : MCQ Option Shuffling : No Is Question Mandatory : No Calculator : None Response Time : N.A Think Time : N.A Minimum Instruction Time : 0

Correct Marks : 5 Wrong Marks : 1

Question Key Details :

Key	Value
Comprehension	MCQ2

शास्त्रीय नृत्य में प्रयोग किये जाने वाद्य यंत्र:

- A. ढोलक
- B. तबला
- C. मृदंगम
- D. ढोलकी
- E. खोल

नीचे दिए गए विकल्पों में सही उत्तर का चयन कीजिए:

1. केवल A, C, D
2. केवल A, B, C
3. केवल A, D, E
4. केवल B, C, E

Options :

- 485584134701. 1
- 485584134702. 2
- 485584134703. 3
- 485584134704. 4

Question Number : 362 Question Id : 48558433677 Question Type : MCQ Option Shuffling : No Is Question Mandatory : No Calculator : None Response Time : N.A Think Time : N.A Minimum Instruction Time : 0

Correct Marks : 5 Wrong Marks : 1

Question Key Details :

Key	Value
Comprehension	MCQ2

Lasya dance is characterised as:

- A. Forceful
- B. Delicate
- C. Graceful
- D. Gentle
- E. Bold

Choose the correct answer from the options given below:

- 1. A, C, E only
- 2. B, C, D only
- 3. B, D, E only
- 4. A, B, D only

Options :

- 485584134705. 1
- 485584134706. 2
- 485584134707. 3
- 485584134708. 4

Question Number : 362 Question Id : 48558433677 Question Type : MCQ Option Shuffling : No Is Question Mandatory : No Calculator : None Response Time : N.A Think Time : N.A Minimum Instruction Time : 0

Correct Marks : 5 Wrong Marks : 1

Question Key Details :

Key	Value
Comprehension	MCQ2

लास्य नृत्य को उस प्रकार से परिभाषित कर सकते:

- A. बलपूर्ण
- B. कोमल
- C. मनोरम
- D. शांत
- E. निर्भीक

नीचे दिए गए विकल्पों में सही उत्तर का चयन कीजिए:

1. केवल A, C और E
2. केवल B, C और D
3. केवल B, D और E
4. केवल A, B और D

Options :

- 485584134705. 1
- 485584134706. 2
- 485584134707. 3
- 485584134708. 4

Question Number : 363 Question Id : 48558433678 Question Type : MCQ Option Shuffling : No Is Question Mandatory : No Calculator : None Response Time : N.A Think Time : N.A Minimum Instruction Time : 0

Correct Marks : 5 Wrong Marks : 1

Question Key Details :

Key	Value
Comprehension	MCQ2

Trace three "Sthayi Bhaav" from the following:

- A. Rati
- B. Nirveda
- C. Krodh
- D. Aalamban
- E. Uddipan

Choose the correct answer from the options given below:

1. A, D, E only
2. A, B, C only
3. C, D, E only
4. B, D, E only

Options :

- 485584134709. 1
- 485584134710. 2

485584134711. 3

485584134712. 4

Question Number : 363 Question Id : 48558433678 Question Type : MCQ Option Shuffling : No Is Question Mandatory : No Calculator : None Response Time : N.A Think Time : N.A Minimum Instruction Time : 0

Correct Marks : 5 Wrong Marks : 1

Question Key Details :

Key	Value
Comprehension	MCQ2

निम्नलिखित में से तीन "स्थायी भाव" है:

- A. रति
- B. निर्वेदा
- C. क्रोध
- D. आलम्बन
- E. उद्दीपन

नीचे दिए गए विकल्पों में से सही उत्तर का चयन कीजिए:

1. केवल A, D और E
2. केवल A, B और C
3. केवल C, D और E
4. केवल B, D और E

Options :

485584134709. 1

485584134710. 2

485584134711. 3

485584134712. 4

Question Number : 364 Question Id : 48558433679 Question Type : MCQ Option Shuffling : No Is Question Mandatory : No Calculator : None Response Time : N.A Think Time : N.A Minimum Instruction Time : 0

Correct Marks : 5 Wrong Marks : 1

Question Key Details :

Key	Value
Comprehension	MCQ2

Choose rasas from the following:

- A. Tandava
- B. Hasya
- C. Beebhatsa
- D. Lasya
- E. Bhayanaka

Choose the correct answer from the options given below:

1. A, C, E only
2. B, D, E only
3. A, C, D only
4. B, C, E only

Options :

- 485584134713. 1
- 485584134714. 2
- 485584134715. 3
- 485584134716. 4

Question Number : 364 Question Id : 48558433679 Question Type : MCQ Option Shuffling : No Is Question Mandatory : No Calculator : None Response Time : N.A Think Time : N.A Minimum Instruction Time : 0

Correct Marks : 5 Wrong Marks : 1

Question Key Details :

Key	Value
Comprehension	MCQ2

निम्न में से रसों का चयन करें:

- A. ताण्डव
- B. हास्य
- C. वीभत्स
- D. लास्य
- E. भयानक

नीचे दिए गए विकल्पों में से सही उत्तर का चयन कीजिए:

1. केवल A, C और E
2. केवल B, D और E
3. केवल A, C और D
4. केवल B, C और E

Options :

- 485584134713. 1
- 485584134714. 2
- 485584134715. 3
- 485584134716. 4

Question Number : 365 Question Id : 48558433680 Question Type : MCQ Option Shuffling : No Is Question Mandatory : No Calculator : None Response Time : N.A Think Time : N.A Minimum Instruction Time : 0

Correct Marks : 5 Wrong Marks : 1

Question Key Details :

Key	Value
Comprehension	MCQ2

Which two are not "Rasa" from among the following?

- A. Aashcharya
- B. Adbhut
- C. Nirveda
- D. Karuna
- E. Roudra

Choose the correct answer from the options given below:

- 1. A and C only
- 2. A and D only
- 3. B and D only
- 4. A and E only

Options :

- 485584134717. 1
- 485584134718. 2
- 485584134719. 3
- 485584134720. 4

Question Number : 365 Question Id : 48558433680 Question Type : MCQ Option Shuffling : No Is Question Mandatory : No Calculator : None Response Time : N.A Think Time : N.A Minimum Instruction Time : 0

Correct Marks : 5 Wrong Marks : 1

Question Key Details :

Key	Value
Comprehension	MCQ2

निम्न में से कौनसे दो "रस" नहीं है?

- A. आश्चर्य
- B. अद्भुत
- C. निर्वेदा
- D. करुणा
- E. रौद्र

नीचे दिए गए विकल्पों में से सही उत्तर का चयन कीजिए:

1. केवल A और C
2. केवल A और D
3. केवल B और D
4. केवल A और E

Options :

- 485584134717. 1
- 485584134718. 2
- 485584134719. 3
- 485584134720. 4

Question Number : 366 Question Id : 48558433681 Question Type : MCQ Option Shuffling : No Is Question Mandatory : No Calculator : None Response Time : N.A Think Time : N.A Minimum Instruction Time : 0

Correct Marks : 5 Wrong Marks : 1

Question Key Details :

Key	Value
Comprehension	MCQ2

Match List I with List II

LIST I		LIST II	
A.	Haas	I.	Veer
B.	Utsah	II.	Hasya
C.	Rati	III.	Karun
D.	Shoka	IV.	Shringar

Choose the correct answer from the options given below:

1. A-I, B-II, C-III, D-IV
2. A-II, B-III, C-I, D-IV
3. A-II, B-I, C-IV, D-III
4. A-IV, B-III, C-II, D-I

Options :

- 485584134721. 1
- 485584134722. 2
- 485584134723. 3
- 485584134724. 4

Question Number : 366 Question Id : 48558433681 Question Type : MCQ Option Shuffling : No Is Question Mandatory : No Calculator : None Response Time : N.A Think Time : N.A Minimum Instruction Time : 0

Correct Marks : 5 Wrong Marks : 1

Question Key Details :

Key	Value
Comprehension	MCQ2

सूची I के साथ सूची II का मिलान कीजिए
भावों का उनके से संबंधित रस से मिलान कीजिये

सूची I		सूची II	
A.	हास	I.	वीर
B.	उत्साह	II.	हास्य
C.	रति	III.	करुण
D.	शोक	IV.	श्रृंगार

नीचे दिए गए विकल्पों में से सही उत्तर का चयन कीजिए:

1. A-I, B-II, C-III, D-IV
2. A-II, B-III, C-I, D-IV
3. A-II, B-I, C-IV, D-III
4. A-IV, B-III, C-II, D-I

Options :

485584134721. 1
485584134722. 2
485584134723. 3
485584134724. 4

Question Number : 367 Question Id : 48558433682 Question Type : MCQ Option Shuffling : No Is Question Mandatory : No Calculator : None Response Time : N.A Think Time : N.A Minimum Instruction Time : 0

Correct Marks : 5 Wrong Marks : 1

Question Key Details :

Key	Value
Comprehension	MCQ2

Match List I with List II

LIST I		LIST II	
A.	Alarippu	I.	Kathak
B.	Pallavi	II.	Odissi
C.	Jiva	III.	Bharatanatyam
D.	Tarana	IV.	Mohiniattam

Choose the correct answer from the options given below:

1. A-III, B-II, C-IV, D-I
2. A-II, B-I, C-III, D-IV
3. A-IV, B-III, C-II, D-I
4. A-I, B-III, C-II, D-IV

Options :

485584134725. 1
485584134726. 2
485584134727. 3
485584134728. 4

Question Number : 367 Question Id : 48558433682 Question Type : MCQ Option Shuffling : No Is Question Mandatory : No Calculator : None Response Time : N.A Think Time : N.A Minimum Instruction Time : 0

Correct Marks : 5 Wrong Marks : 1

Question Key Details :

Key	Value
Comprehension	MCQ2

सूची I के साथ सूची II का मिलान कीजिए

सूची I		सूची II	
A.	अलरिपू	I.	कथक
B.	पल्लवी	II.	ओडिसी
C.	जीवा	III.	भरतनाट्यम
D.	तराना	IV.	मोहिनीअट्टम

नीचे दिए गए विकल्पों में से सही उत्तर का चयन कीजिए:

1. A-III, B-II, C-IV, D-I
2. A-II, B-I, C-III, D-IV
3. A-IV, B-III, C-II, D-I
4. A-I, B-III, C-II, D-IV

Options :

485584134725. 1
485584134726. 2
485584134727. 3
485584134728. 4

Question Number : 368 Question Id : 48558433683 Question Type : MCQ Option Shuffling : No Is Question Mandatory : No Calculator : None Response Time : N.A Think Time : N.A Minimum Instruction Time : 0

Correct Marks : 5 Wrong Marks : 1

Question Key Details :

Key	Value
Comprehension	MCQ2

Match List I with List II

LIST I		LIST II	
A.	Cause - Determinants	I.	Vyabhichari bhava
B.	Consequences-reactions	II.	Rasa
C.	Complementary expression	III.	Vibhava
D.	Sentiment	IV.	Anubhava

Choose the correct answer from the options given below:

1. A-II, B-I, C-III, D-IV
2. A-III, B-IV, C-I, D-II
3. A-IV, B-II, C-III, D-I
4. A-I, B-III, C-II, D-IV

Options :

- 485584134729. 1
- 485584134730. 2
- 485584134731. 3
- 485584134732. 4

Question Number : 368 Question Id : 48558433683 Question Type : MCQ Option Shuffling : No Is Question Mandatory : No Calculator : None Response Time : N.A Think Time : N.A Minimum Instruction Time : 0

Correct Marks : 5 Wrong Marks : 1

Question Key Details :

Key	Value
Comprehension	MCQ2

सूची I के साथ सूची II का मिलान कीजिए

सूची I		सूची II	
A.	कारण	I.	व्ययभिचारी भाव
B.	परिणाम-प्रतिक्रिया	II.	रस
C.	सम्मानजनक भावाभिव्यक्ति	III.	विभाव
D.	भावुकता	IV.	अनुभाव

नीचे दिए गए विकल्पों में से सही उत्तर का चयन कीजिए:

1. A-II, B-I, C-III, D-IV
2. A-III, B-IV, C-I, D-II
3. A-IV, B-II, C-III, D-I
4. A-I, B-III, C-II, D-IV

Options :

485584134729. 1
485584134730. 2
485584134731. 3
485584134732. 4

Question Number : 369 Question Id : 48558433684 Question Type : MCQ Option Shuffling : No Is Question Mandatory : No Calculator : None Response Time : N.A Think Time : N.A Minimum Instruction Time : 0

Correct Marks : 5 Wrong Marks : 1

Question Key Details :

Key	Value
Comprehension	MCQ2

Match List I with List II

LIST I		LIST II	
A.	Odiyanam	I.	ear ornament
B.	Chandra-Surya	II.	three round balls attached to hair
C.	Kunjalam	III.	head ornament
D.	Jhumiki	IV.	belt

Choose the correct answer from the options given below:

1. A-II, B-I, C-III, D-IV
2. A-III, B-IV, C-I, D-II
3. A-I, B-IV, C-III, D-II
4. A-IV, B-III, C-II, D-I

Options :

485584134733. 1
485584134734. 2
485584134735. 3
485584134736. 4

Question Number : 369 Question Id : 48558433684 Question Type : MCQ Option Shuffling : No Is Question Mandatory : No Calculator : None Response Time : N.A Think Time : N.A Minimum Instruction Time : 0

Correct Marks : 5 Wrong Marks : 1

Question Key Details :

Key	Value
Comprehension	MCQ2

सूची I के साथ सूची II का मिलान कीजिए
धारण किये गये आभूषण का धारित अंग के साथ मिलान कीजिये

सूची I		सूची II	
A.	ओडियानम	I.	कान का आभूषण
B.	चन्द्र-सूर्य	II.	तीन गोलाकार बॉल, केशों में लगाते हैं
C.	कुंजलम	III.	सिर का आभूषण
D.	झमकी	IV.	पट्टिका (belt)

नीचे दिए गए विकल्पों में से सही उत्तर का चयन कीजिए:

1. A-II, B-I, C-III, D-IV
2. A-III, B-IV, C-I, D-II
3. A-I, B-IV, C-III, D-II
4. A-IV, B-III, C-II, D-I

Options :

485584134733. 1
485584134734. 2
485584134735. 3
485584134736. 4

Question Number : 370 Question Id : 48558433685 Question Type : MCQ Option Shuffling : No Is Question Mandatory : No Calculator : None Response Time : N.A Think Time : N.A Minimum Instruction Time : 0

Correct Marks : 5 Wrong Marks : 1

Question Key Details :

Key	Value
Comprehension	MCQ2

Give the correct order of the following rasas according to Natyashastra:

- A. Raudra
- B. Hasya
- C. Veera
- D. Shringara
- E. Karuna

Choose the correct answer from the options given below:

- 1. B, A, E, D, C
- 2. D, C, A, E, B
- 3. A, C, E, B, D
- 4. D, B, E, A, C

Options :

- 485584134737. 1
- 485584134738. 2
- 485584134739. 3
- 485584134740. 4

Question Number : 370 Question Id : 48558433685 Question Type : MCQ Option Shuffling : No Is Question Mandatory : No Calculator : None Response Time : N.A Think Time : N.A Minimum Instruction Time : 0

Correct Marks : 5 Wrong Marks : 1

Question Key Details :

Key	Value
Comprehension	MCQ2

नाट्यशास्त्र के अनुसार निम्न रसों को उनको उचित क्रम में व्यवस्थित कीजिये:

- A. रौद्र
- B. हास्य
- C. वीर
- D. श्रृंगार
- E. करुण

निम्न दिये गये विकल्पों में से सही उत्तर चुनिये:

- 1. B, A, E, D, C
- 2. D, C, A, E, B
- 3. A, C, E, B, D
- 4. D, B, E, A, C

Options :

- 485584134737. 1
- 485584134738. 2
- 485584134739. 3
- 485584134740. 4

Percussion Music

Section Id :	485584865
Section Number :	4
Section type :	Online
Mandatory or Optional :	Optional
Number of Questions :	25
Number of Questions to be attempted :	20
Section Marks :	100
Enable Mark as Answered Mark for Review and Clear Response :	Yes
Maximum Instruction Time :	0
Sub-Section Number :	1
Sub-Section Id :	4855842440
Question Shuffling Allowed :	Yes
Is Section Default? :	null

Question Number : 371 Question Id : 48558433686 Question Type : MCQ Option Shuffling : No Is Question Mandatory : No Calculator : None Response Time : N.A Think Time : N.A Minimum Instruction Time : 0

Correct Marks : 5 Wrong Marks : 1

Question Key Details :

Key	Value
Comprehension	MCQ3

Zakir Hussain belongs to which of the following Tabla gharanas?

1. Punjab
2. Delhi
3. Ajrada
4. Lucknow

Options :

485584134741. 1
485584134742. 2
485584134743. 3
485584134744. 4

Question Number : 371 Question Id : 48558433686 Question Type : MCQ Option Shuffling : No Is Question Mandatory : No Calculator : None Response Time : N.A Think Time : N.A Minimum Instruction Time : 0

Correct Marks : 5 Wrong Marks : 1

Question Key Details :

Key	Value
Comprehension	MCQ3

जाकिर हुसैन का संबंध तबले के किस घराने से है?

1. पंजाब
2. दिल्ली
3. अजराड़ा
4. लखनऊ

Options :

485584134741. 1
485584134742. 2
485584134743. 3
485584134744. 4

Question Number : 372 Question Id : 48558433687 Question Type : MCQ Option Shuffling : No Is Question Mandatory : No Calculator : None Response Time : N.A Think Time : N.A Minimum Instruction Time : 0

Correct Marks : 5 Wrong Marks : 1

Question Key Details :

Key	Value
Comprehension	MCQ3

Identify the Tala - Dha Ge Na Ti

1. Dadra
2. Rupak
3. Kaharwa
4. Sooltala

Options :

485584134745. 1
485584134746. 2
485584134747. 3
485584134748. 4

Question Number : 372 Question Id : 48558433687 Question Type : MCQ Option Shuffling : No Is Question Mandatory : No Calculator : None Response Time : N.A Think Time : N.A Minimum Instruction Time : 0

Correct Marks : 5 Wrong Marks : 1

Question Key Details :

Key	Value
Comprehension	MCQ3

ताल को पहचानिये - धा मे न ती....

1. दादरा
2. रुपक
3. कहरवा
4. सूलताल

Options :

485584134745. 1
485584134746. 2
485584134747. 3
485584134748. 4

Question Number : 373 Question Id : 48558433688 Question Type : MCQ Option Shuffling : No Is Question Mandatory : No Calculator : None Response Time : N.A Think Time : N.A Minimum Instruction Time : 0

Correct Marks : 5 Wrong Marks : 1

Question Key Details :

Key	Value
Comprehension	MCQ3

In Natyashastra, which instruments (Vadya) are found similar to Pakhawaj?

1. Ankik
2. Urdhwak
3. Aalingya
4. Jodi

Options :

485584134749. 1
485584134750. 2
485584134751. 3
485584134752. 4

Question Number : 373 Question Id : 48558433688 Question Type : MCQ Option Shuffling : No Is Question Mandatory : No Calculator : None Response Time : N.A Think Time : N.A Minimum Instruction Time : 0

Correct Marks : 5 Wrong Marks : 1

Question Key Details :

Key	Value
Comprehension	MCQ3

नाट्यशास्त्र में पखवाज के समान कौन से वाद्य की चर्चा मिलती है?

1. अंकिक
2. उर्ध्वक
3. आलिंग्य
4. जोड़ी

Options :

485584134749. 1
485584134750. 2
485584134751. 3
485584134752. 4

Question Number : 374 Question Id : 48558433689 Question Type : MCQ Option Shuffling : No Is Question Mandatory : No Calculator : None Response Time : N.A Think Time : N.A Minimum Instruction Time : 0

Correct Marks : 5 Wrong Marks : 1

Question Key Details :

Key	Value
Comprehension	MCQ3

Jhump Tal accompanies which form of music?

1. Hindustani
2. Karnatak
3. Punjabi
4. Hariyanwi

Options :

485584134753. 1
485584134754. 2
485584134755. 3
485584134756. 4

Question Number : 374 Question Id : 48558433689 Question Type : MCQ Option Shuffling : No Is Question Mandatory : No Calculator : None Response Time : N.A Think Time : N.A Minimum Instruction Time : 0

Correct Marks : 5 Wrong Marks : 1

Question Key Details :

Key	Value
Comprehension	MCQ3

झम्प ताल का वादन किस संगीत के साथ किया जाता है?

1. हिन्दुस्तानी
2. कर्नाटक
3. पंजाबी
4. हरियाणवी

Options :

485584134753. 1
485584134754. 2
485584134755. 3
485584134756. 4

Question Number : 375 Question Id : 48558433690 Question Type : MCQ Option Shuffling : No Is Question Mandatory : No Calculator : None Response Time : N.A Think Time : N.A Minimum Instruction Time : 0

Correct Marks : 5 Wrong Marks : 1

Question Key Details :

Key	Value
Comprehension	MCQ3

Which Tala is accompanied with Dhrupad?

1. Teen Tala
2. Jhump Tala
3. Sooltala
4. Ektala

Options :

485584134757. 1
485584134758. 2
485584134759. 3
485584134760. 4

Question Number : 375 Question Id : 48558433690 Question Type : MCQ Option Shuffling : No Is Question Mandatory : No Calculator : None Response Time : N.A Think Time : N.A Minimum Instruction Time : 0

Correct Marks : 5 Wrong Marks : 1

Question Key Details :

Key	Value
Comprehension	MCQ3

धुपद के साथ कौन सा ताल बजाया जाता है?

1. तीन ताल
2. झपताल
3. सूलताल
4. एकताल

Options :

485584134757. 1
485584134758. 2
485584134759. 3
485584134760. 4

Question Number : 376 Question Id : 48558433691 Question Type : MCQ Option Shuffling : No Is Question Mandatory : No Calculator : None Response Time : N.A Think Time : N.A Minimum Instruction Time : 0

Correct Marks : 5 Wrong Marks : 1

Question Key Details :

Key	Value
Comprehension	MCQ3

Which Tala is played with Bhajan?

1. Kaharwa
2. Rudra
3. Lilawati
4. Vishnu

Options :

485584134761. 1
485584134762. 2
485584134763. 3
485584134764. 4

Question Number : 376 Question Id : 48558433691 Question Type : MCQ Option Shuffling : No Is Question Mandatory : No Calculator : None Response Time : N.A Think Time : N.A Minimum Instruction Time : 0

Correct Marks : 5 Wrong Marks : 1

Question Key Details :

Key	Value
Comprehension	MCQ3

भजन के साथ बजाया जाता है?

1. कहरवा
2. रुद्र
3. लिलावती
4. विष्णु

Options :

485584134761. 1
485584134762. 2
485584134763. 3
485584134764. 4

Question Number : 377 Question Id : 48558433692 Question Type : MCQ Option Shuffling : No Is Question Mandatory : No Calculator : None Response Time : N.A Think Time : N.A Minimum Instruction Time : 0

Correct Marks : 5 Wrong Marks : 1

Question Key Details :

Key	Value
Comprehension	MCQ3

Who was the founder of Delhi Gharana?

1. Modu Khan
2. Kallu Khan
3. Siddhar Khan
4. Hasan Khan

Options :

485584134765. 1
485584134766. 2
485584134767. 3
485584134768. 4

Question Number : 377 Question Id : 48558433692 Question Type : MCQ Option Shuffling : No Is Question Mandatory : No Calculator : None Response Time : N.A Think Time : N.A Minimum Instruction Time : 0

Correct Marks : 5 Wrong Marks : 1

Question Key Details :

Key	Value
Comprehension	MCQ3

दिल्ली घराने के संस्थापक कौन थे?

1. मोदू खाँ
2. कल्लू खाँ
3. सिद्दार खाँ
4. हसन खाँ

Options :

485584134765. 1
485584134766. 2
485584134767. 3
485584134768. 4

Question Number : 378 Question Id : 48558433693 Question Type : MCQ Option Shuffling : No Is Question Mandatory : No Calculator : None Response Time : N.A Think Time : N.A Minimum Instruction Time : 0

Correct Marks : 5 Wrong Marks : 1

Question Key Details :

Key	Value
Comprehension	MCQ3

Mridangam is made from the wood of :

1. Aam (Mango)
2. Shisham
3. Jamun
4. Kathal (Jackfruit)

Options :

485584134769. 1
485584134770. 2
485584134771. 3
485584134772. 4

Question Number : 378 Question Id : 48558433693 Question Type : MCQ Option Shuffling : No Is Question Mandatory : No Calculator : None Response Time : N.A Think Time : N.A Minimum Instruction Time : 0

Correct Marks : 5 Wrong Marks : 1

Question Key Details :

Key	Value
Comprehension	MCQ3

मृदंगम् किस लकड़ी का बना होता है?

1. आम
2. शीशम
3. जामुन
4. कटहल

Options :

485584134769. 1
485584134770. 2
485584134771. 3
485584134772. 4

Question Number : 379 Question Id : 48558433694 Question Type : MCQ Option Shuffling : No Is Question Mandatory : No Calculator : None Response Time : N.A Think Time : N.A Minimum Instruction Time : 0

Correct Marks : 5 Wrong Marks : 1

Question Key Details :

Key	Value
Comprehension	MCQ3

How many 'Gullis' are used in Pakhawaj?

1. 6
2. 8
3. 10
4. 12

Options :

485584134773. 1
485584134774. 2
485584134775. 3
485584134776. 4

Question Number : 379 Question Id : 48558433694 Question Type : MCQ Option Shuffling : No Is Question Mandatory : No Calculator : None Response Time : N.A Think Time : N.A Minimum Instruction Time : 0

Correct Marks : 5 Wrong Marks : 1

Question Key Details :

Key	Value
Comprehension	MCQ3

पखावज में कितने 'गुल्ली' लगे होते हैं?

1. 6
2. 8
3. 10
4. 12

Options :

485584134773. 1
485584134774. 2
485584134775. 3
485584134776. 4

Question Number : 380 Question Id : 48558433695 Question Type : MCQ Option Shuffling : No Is Question Mandatory : No Calculator : None Response Time : N.A Think Time : N.A Minimum Instruction Time : 0

Correct Marks : 5 Wrong Marks : 1

Question Key Details :

Key	Value
Comprehension	MCQ3

Kudau Singh is related to which musical instrument (Vadya)?

1. Tabla
2. Pakhawaj
3. Mridangam
4. Punga

Options :

485584134777. 1
485584134778. 2
485584134779. 3
485584134780. 4

Question Number : 380 Question Id : 48558433695 Question Type : MCQ Option Shuffling : No Is Question Mandatory : No Calculator : None Response Time : N.A Think Time : N.A Minimum Instruction Time : 0

Correct Marks : 5 Wrong Marks : 1

Question Key Details :

Key	Value
Comprehension	MCQ3

कुदऊ सिंह का संबंध किस वाद्य से है?

1. तबला
2. पखावज
3. मृदंगम्
4. पुंग

Options :

485584134777. 1
485584134778. 2
485584134779. 3
485584134780. 4

Question Number : 381 Question Id : 48558433696 Question Type : MCQ Option Shuffling : No Is Question Mandatory : No Calculator : None Response Time : N.A Think Time : N.A Minimum Instruction Time : 0

Correct Marks : 5 Wrong Marks : 1

Question Key Details :

Key	Value
Comprehension	MCQ3

Kayada of Ada laya is famous in which Gharana?

1. Delhi
2. Punjab
3. Ajrada
4. Farukhabad

Options :

485584134781. 1
485584134782. 2
485584134783. 3
485584134784. 4

Question Number : 381 Question Id : 48558433696 Question Type : MCQ Option Shuffling : No Is Question Mandatory : No Calculator : None Response Time : N.A Think Time : N.A Minimum Instruction Time : 0

Correct Marks : 5 Wrong Marks : 1

Question Key Details :

Key	Value
Comprehension	MCQ3

'आइ लय' की कायदे के लिये कौन सा घराना जाना जाता है?

1. दिल्ली
2. पंजाब
3. अजराड़ा
4. फरुखाबाद

Options :

485584134781. 1
485584134782. 2
485584134783. 3
485584134784. 4

Question Number : 382 Question Id : 48558433697 Question Type : MCQ Option Shuffling : No Is Question Mandatory : No Calculator : None Response Time : N.A Think Time : N.A Minimum Instruction Time : 0

Correct Marks : 5 Wrong Marks : 1

Question Key Details :

Key	Value
Comprehension	MCQ3

'Dha' Varna is related to which instrument (Vadya)?

1. Sitar
2. Sarod
3. Pakhawaj
4. Violin

Options :

485584134785. 1
485584134786. 2
485584134787. 3
485584134788. 4

Question Number : 382 Question Id : 48558433697 Question Type : MCQ Option Shuffling : No Is Question Mandatory : No Calculator : None Response Time : N.A Think Time : N.A Minimum Instruction Time : 0

Correct Marks : 5 Wrong Marks : 1

Question Key Details :

Key	Value
Comprehension	MCQ3

'धा' वर्ण का संबंध किस वाद्य से है?

1. सितार
2. सरोद
3. पखावज
4. वायलिन

Options :

485584134785. 1
485584134786. 2
485584134787. 3
485584134788. 4

Question Number : 383 Question Id : 48558433698 Question Type : MCQ Option Shuffling : No Is Question Mandatory : No Calculator : None Response Time : N.A Think Time : N.A Minimum Instruction Time : 0

Correct Marks : 5 Wrong Marks : 1

Question Key Details :

Key	Value
Comprehension	MCQ3

Ta, Deem, Dom, Nam varnas pertain to which instrument (Vadya)?

1. Pakhawaj
2. Tabla
3. Dholak
4. Mridangam

Options :

485584134789. 1
485584134790. 2
485584134791. 3
485584134792. 4

Question Number : 383 Question Id : 48558433698 Question Type : MCQ Option Shuffling : No Is Question Mandatory : No Calculator : None Response Time : N.A Think Time : N.A Minimum Instruction Time : 0

Correct Marks : 5 Wrong Marks : 1

Question Key Details :

Key	Value
Comprehension	MCQ3

ता, धीम, दोम, नम् यह वर्ण किस वाद्य से संबंधित?

1. पखावज
2. तबला
3. ढोलक
4. मृदगम्

Options :

485584134789. 1
485584134790. 2
485584134791. 3
485584134792. 4

Question Number : 384 Question Id : 48558433699 Question Type : MCQ Option Shuffling : No Is Question Mandatory : No Calculator : None Response Time : N.A Think Time : N.A Minimum Instruction Time : 0

Correct Marks : 5 Wrong Marks : 1

Question Key Details :

Key	Value
Comprehension	MCQ3

'Pharan' is played on:

1. Khol
2. Tabla
3. Pakhawaj
4. Mridangam

Options :

485584134793. 1
485584134794. 2
485584134795. 3
485584134796. 4

Question Number : 384 Question Id : 48558433699 Question Type : MCQ Option Shuffling : No Is Question Mandatory : No Calculator : None Response Time : N.A Think Time : N.A Minimum Instruction Time : 0

Correct Marks : 5 Wrong Marks : 1

Question Key Details :

Key	Value
Comprehension	MCQ3

'फरण' बजाया जाता है-

1. खोल
2. तबला
3. पखावज
4. मृदंगम

Options :

485584134793. 1
485584134794. 2
485584134795. 3
485584134796. 4

Question Number : 385 Question Id : 48558433700 Question Type : MCQ Option Shuffling : No Is Question Mandatory : No Calculator : None Response Time : N.A Think Time : N.A Minimum Instruction Time : 0

Correct Marks : 5 Wrong Marks : 1

Question Key Details :

Key	Value
Comprehension	MCQ3

Matras are indicated by the sign -

1. X X X
2. # # #
3. 1 2 3
4. 1 1 1

Options :

485584134797. 1
485584134798. 2
485584134799. 3
485584134800. 4

Question Number : 385 Question Id : 48558433700 Question Type : MCQ Option Shuffling : No Is Question Mandatory : No Calculator : None Response Time : N.A Think Time : N.A Minimum Instruction Time : 0

Correct Marks : 5 Wrong Marks : 1

Question Key Details :

Key	Value
Comprehension	MCQ3

मात्रा को किस प्रकार दर्शाते हैं?

1. XXX

2. ###

3. 1 2 3

4. 1 1 1

Options :

485584134797. 1

485584134798. 2

485584134799. 3

485584134800. 4

Question Number : 386 Question Id : 48558433701 Question Type : MCQ Option Shuffling : No Is Question Mandatory : No Calculator : None Response Time : N.A Think Time : N.A Minimum Instruction Time : 0

Correct Marks : 5 Wrong Marks : 1

Question Key Details :

Key	Value
Comprehension	MCQ3

Earmark the laya 'Thah':

1. 1 2 3 4

2. 12 34 56 78

3. 123 456 789 10,11,12

4. 1234 1234 1234 1234

Options :

485584134801. 1

485584134802. 2

485584134803. 3

485584134804. 4

Question Number : 386 Question Id : 48558433701 Question Type : MCQ Option Shuffling : No Is Question Mandatory : No Calculator : None Response Time : N.A Think Time : N.A Minimum Instruction Time : 0

Correct Marks : 5 Wrong Marks : 1

Question Key Details :

Key	Value
Comprehension	MCQ3

'ठाह' लय को पहचानिये:-

1. 1 2 3 4

2. 12 34 56 78

3. 123 456 789 10,11,12

4. 1234 1234 1234 1234

Options :

485584134801. 1

485584134802. 2

485584134803. 3

485584134804. 4

Question Number : 387 Question Id : 48558433702 Question Type : MCQ Option Shuffling : No Is Question Mandatory : No Calculator : None Response Time : N.A Think Time : N.A Minimum Instruction Time : 0

Correct Marks : 5 Wrong Marks : 1

Question Key Details :

Key	Value
Comprehension	MCQ3

Syahi (ink) appearing in the Mridangam bears the color:

1. Green

2. Red

3. Black

4. Yellow

Options :

485584134805. 1

485584134806. 2

485584134807. 3

485584134808. 4

Question Number : 387 Question Id : 48558433702 Question Type : MCQ Option Shuffling : No Is Question Mandatory : No Calculator : None Response Time : N.A Think Time : N.A Minimum Instruction Time : 0

Correct Marks : 5 Wrong Marks : 1

Question Key Details :

Key	Value
Comprehension	MCQ3

मृदंगम् की 'स्याही' किस रंग की होती है:

1. हरी
2. लाल
3. काली
4. पीली

Options :

485584134805. 1
485584134806. 2
485584134807. 3
485584134808. 4

Question Number : 388 Question Id : 48558433703 Question Type : MCQ Option Shuffling : No Is Question Mandatory : No Calculator : None Response Time : N.A Think Time : N.A Minimum Instruction Time : 0

Correct Marks : 5 Wrong Marks : 1

Question Key Details :

Key	Value
Comprehension	MCQ3

Identify the Tala:

Ka, dhe, Te, Dhe Te dhaa S

1. Teentala
2. Chartala
3. Dhamar
4. Jhampatala

Options :

485584134809. 1
485584134810. 2
485584134811. 3
485584134812. 4

Question Number : 388 Question Id : 48558433703 Question Type : MCQ Option Shuffling : No Is Question Mandatory : No Calculator : None Response Time : N.A Think Time : N.A Minimum Instruction Time : 0

Correct Marks : 5 Wrong Marks : 1

Question Key Details :

Key	Value
Comprehension	MCQ3

ताल को पहचानिये:

का, धे, ते, धे ते धा s

1. तीनताल
2. चारताल
3. धमार
4. झपताल

Options :

485584134809. 1
485584134810. 2
485584134811. 3
485584134812. 4

Question Number : 389 Question Id : 48558433704 Question Type : MCQ Option Shuffling : No Is Question Mandatory : No Calculator : None Response Time : N.A Think Time : N.A Minimum Instruction Time : 0

Correct Marks : 5 Wrong Marks : 1

Question Key Details :

Key	Value
Comprehension	MCQ3

'Baddhi' of Tabla is made up of:

1. String
2. Leather
3. Metal
4. Iron

Options :

485584134813. 1
485584134814. 2
485584134815. 3
485584134816. 4

Question Number : 389 Question Id : 48558433704 Question Type : MCQ Option Shuffling : No Is Question Mandatory : No Calculator : None Response Time : N.A Think Time : N.A Minimum Instruction Time : 0

Correct Marks : 5 Wrong Marks : 1

Question Key Details :

Key	Value
Comprehension	MCQ3

तबले की बद्दी किस चीज की बनी होती है?

1. रस्सो की
2. चमड़े की
3. धातु की
4. लोहे की

Options :

485584134813. 1
485584134814. 2
485584134815. 3
485584134816. 4

Question Number : 390 Question Id : 48558433705 Question Type : MCQ Option Shuffling : No Is Question Mandatory : No Calculator : None Response Time : N.A Think Time : N.A Minimum Instruction Time : 0

Correct Marks : 5 Wrong Marks : 1

Question Key Details :

Key	Value
Comprehension	MCQ3

Match List I with List II

LIST I		LIST II	
Revelations (Bal)		Tala	
A.	Dhi Na Dhi Dhi Na	I.	Teental
B.	Dha Dhin Dhin Dha	II.	Jhaptal
C.	Ti Ti Na	III.	Dadra
D.	Dha Dhi Na	IV.	Rupak

Choose the correct answer from the options given below:

1. A-I, B-III, C-II, D-IV
2. A-III, B-II, C-I, D-IV
3. A-IV, B-III, C-II, D-I
4. A-II, B-I, C-IV, D-III

Options :

485584134817. 1
485584134818. 2
485584134819. 3
485584134820. 4

Question Number : 390 Question Id : 48558433705 Question Type : MCQ Option Shuffling : No Is Question Mandatory : No Calculator : None Response Time : N.A Think Time : N.A Minimum Instruction Time : 0

Correct Marks : 5 Wrong Marks : 1

Question Key Details :

Key	Value
-----	-------

सूची I के साथ सूची II मिलान कीजिए।

सूची I		सूची II	
बोल		ताल	
A.	धा ना धी धी ना	I.	तीनताल
B.	धा धी धी धा	II.	झपताल
C.	ती ती ना	III.	दादरा
D.	धा धी ना	IV.	रुपक

नीचे दिए गए विकल्पों में से सही उत्तर का चयन कीजिए:

1. A-I, B-III, C-II, D-IV
2. A-III, B-II, C-I, D-IV
3. A-IV, B-III, C-II, D-I
4. A-II, B-I, C-IV, D-III

Options :

485584134817. 1
485584134818. 2
485584134819. 3
485584134820. 4

Question Number : 391 Question Id : 48558433706 Question Type : MCQ Option Shuffling : No Is Question Mandatory : No Calculator : None Response Time : N.A Think Time : N.A Minimum Instruction Time : 0

Correct Marks : 5 Wrong Marks : 1

Question Key Details :

Key	Value
Comprehension	MCQ3

Match List I with List II

LIST I		LIST II	
Bandish		(Instruments) Vadya	
A.	Kayada	I.	Pakhawaj
B.	Stuti Paran	II.	Sitar
C.	Razakhani Gat	III.	Tabla
D.	Aamad	IV.	Kathak

Choose the correct answer from the options given below:

1. A-III, B-I, C-II, D-IV
2. A-II, B-III, C-IV, D-I
3. A-I, B-II, C-III, D-IV
4. A-IV, B-III, C-I, D-II

Options :

485584134821. 1
485584134822. 2
485584134823. 3
485584134824. 4

**Question Number : 391 Question Id : 48558433706 Question Type : MCQ Option Shuffling : No Is Question Mandatory :
No Calculator : None Response Time : N.A Think Time : N.A Minimum Instruction Time : 0**

Correct Marks : 5 Wrong Marks : 1

Question Key Details :

Key	Value
Comprehension	MCQ3

सूची I का सूची II से मिलान कीजिए।

सूची I		सूची II	
बंदिश		वाद्य	
A.	कायदा	I.	पखावज
B.	स्तुति परण	II.	सितार
C.	रज़ाखानी गत	III.	तबला
D.	आमद	IV.	कथक

निम्नलिखित विकल्पों में से सही उत्तर का चयन कीजिए :

1. A-III, B-I, C-II, D-IV
2. A-II, B-III, C-IV, D-I
3. A-I, B-II, C-II, D-IV
4. A-IV, B-III, C-I, D-II

Options :

485584134821. 1
485584134822. 2
485584134823. 3
485584134824. 4

**Question Number : 392 Question Id : 48558433707 Question Type : MCQ Option Shuffling : No Is Question Mandatory :
No Calculator : None Response Time : N.A Think Time : N.A Minimum Instruction Time : 0**

Correct Marks : 5 Wrong Marks : 1

Question Key Details :

Key	Value
Comprehension	MCQ3

Which among the following are played on Pakhawaj?

- A. Stuti Paran
- B. Tukda
- C. Rela
- D. Kayada
- E. Chakradar

Choose the correct answer from the options given below:

- 1. A, C and E
- 2. A, B and D
- 3. A, D and E
- 4. A, B and C

Options :

- 485584134825. 1
- 485584134826. 2
- 485584134827. 3
- 485584134828. 4

Question Number : 392 Question Id : 48558433707 Question Type : MCQ Option Shuffling : No Is Question Mandatory : No Calculator : None Response Time : N.A Think Time : N.A Minimum Instruction Time : 0

Correct Marks : 5 Wrong Marks : 1

Question Key Details :

Key	Value
Comprehension	MCQ3

पखावज वादन का क्रम है-

- A. स्तुति परण
- B. तुकड़ा
- C. रेला
- D. कायदा
- E. चक्रदार

नीचे दिये गए विकल्पों में से सही उत्तर का चयन कीजिए:

- 1. A, C एवं E
- 2. A, B एवं D
- 3. A, D एवं E
- 4. A, B एवं C

Options :

- 485584134825. 1
- 485584134826. 2
- 485584134827. 3
- 485584134828. 4

Question Number : 393 Question Id : 48558433708 Question Type : MCQ Option Shuffling : No Is Question Mandatory : No Calculator : None Response Time : N.A Think Time : N.A Minimum Instruction Time : 0

Correct Marks : 5 Wrong Marks : 1

Question Key Details :

Key	Value
Comprehension	MCQ3

Select correct sequence of Tabla Players on the basis of their seniority.

- A. Kishan Maharaj
- B. Zakir Hussain
- C. Chotey Lal Mishra
- D. Ramji Mishra
- E. Ram Kumar Mishra

Choose the correct answer from the options given below:

- 1. A, C, D, B, E
- 2. A, B, C, D, E
- 3. A, D, E, C, B
- 4. A, E, D, C, B

Options :

- 485584134829. 1
- 485584134830. 2
- 485584134831. 3
- 485584134832. 4

Question Number : 393 Question Id : 48558433708 Question Type : MCQ Option Shuffling : No Is Question Mandatory : No Calculator : None Response Time : N.A Think Time : N.A Minimum Instruction Time : 0

Correct Marks : 5 Wrong Marks : 1

Question Key Details :

Key	Value
Comprehension	MCQ3

तबला वादकों के सही क्रम को वरिष्ठता के अनुसार चुनिए.

- A. किशन महाराज
- B. जाकिर हुसैन
- C. छोटे लाल मिश्र
- D. रामजी मिश्रा
- E. राम कुमार मिश्रा

नीचे दिए गए विकल्पों में से सही उत्तर का चयन कीजिए:

- 1. A, C, D, B एवं E
- 2. A, B, C, D एवं E
- 3. A, D, E, C एवं B
- 4. A, E, D, C एवं B

Options :

- 485584134829. 1
- 485584134830. 2
- 485584134831. 3
- 485584134832. 4

Question Number : 394 Question Id : 48558433709 Question Type : MCQ Option Shuffling : No Is Question Mandatory : No Calculator : None Response Time : N.A Think Time : N.A Minimum Instruction Time : 0

Correct Marks : 5 Wrong Marks : 1

Question Key Details :

Key	Value
Comprehension	MCQ3

Which instruments (Vadya) are played during 'Bhajan' singing?

- A. Tabla
- B. Surbahar
- C. Pakhawaj
- D. Drum
- E. Harmonium

Choose the correct answer from the options given below:

- 1. A, B and C
- 2. A, C and E
- 3. A, D and B
- 4. B, D and E

Options :

- 485584134833. 1
- 485584134834. 2
- 485584134835. 3

485584134836. 4

Question Number : 394 Question Id : 48558433709 Question Type : MCQ Option Shuffling : No Is Question Mandatory : No Calculator : None Response Time : N.A Think Time : N.A Minimum Instruction Time : 0

Correct Marks : 5 Wrong Marks : 1

Question Key Details :

Key	Value
Comprehension	MCQ3

'भजन' के साथ कौन-कौन सा वाद्य बजाया जाता है?

- A. तबला
- B. सुरबहार
- C. पखावज
- D. ड्रम
- E. हारमोनियम

नीचे दिए गए विकल्पों में से सही उत्तर का चयन कीजिए:

1. A, B एवं C
2. A, C एवं E
3. A, D एवं B
4. B, D एवं E

Options :

- 485584134833. 1
- 485584134834. 2
- 485584134835. 3
- 485584134836. 4

Question Number : 395 Question Id : 48558433710 Question Type : MCQ Option Shuffling : No Is Question Mandatory : No Calculator : None Response Time : N.A Think Time : N.A Minimum Instruction Time : 0

Correct Marks : 5 Wrong Marks : 1

Question Key Details :

Key	Value
Comprehension	MCQ3

Which of the following are Tabla Gharanas?

- A. Delhi
- B. Culcutta
- C. Ajrada
- D. Jaipur
- E. Farukhabad

Choose the correct answer from the options given below:

1. A, B and D
2. A, D and E
3. A, C and E
4. A, E and C

Options :

- 485584134837. 1
- 485584134838. 2
- 485584134839. 3
- 485584134840. 4

Question Number : 395 Question Id : 48558433710 Question Type : MCQ Option Shuffling : No Is Question Mandatory : No Calculator : None Response Time : N.A Think Time : N.A Minimum Instruction Time : 0

Correct Marks : 5 Wrong Marks : 1

Question Key Details :

Key	Value
Comprehension	MCQ3

तबले के घराने के क्रम को पहचानिये?

- A. दिल्ली
- B. कलकत्ता
- C. अजराड़ा
- D. जयपुर
- E. फरूखाबाद

नीचे दिए गए विकल्पों में से सही उत्तर का चयन कीजिए:

1. A, B एवं D
2. A, D एवं E
3. A, C एवं E
4. A, E एवं C

Options :

- 485584134837. 1
- 485584134838. 2
- 485584134839. 3

Drama And Theatre

Section Id :	485584866
Section Number :	5
Section type :	Online
Mandatory or Optional :	Optional
Number of Questions :	25
Number of Questions to be attempted :	20
Section Marks :	100
Enable Mark as Answered Mark for Review and Clear Response :	Yes
Maximum Instruction Time :	0
Sub-Section Number :	1
Sub-Section Id :	4855842441
Question Shuffling Allowed :	Yes
Is Section Default? :	null

Question Number : 396 Question Id : 48558433711 Question Type : MCQ Option Shuffling : No Is Question Mandatory : No Calculator : None Response Time : N.A Think Time : N.A Minimum Instruction Time : 0 Correct Marks : 5 Wrong Marks : 1

Question Key Details :

Key	Value
Comprehension	MCQ4

In which sanskrit drama of Bhasa the curse of Parshurama plays an important role?

1. Madhyama Vyayoga
2. Karnabharam
3. Urubhangam
4. Dutavakyam

Options :

485584134841. 1
485584134842. 2
485584134843. 3
485584134844. 4

Question Number : 396 Question Id : 48558433711 Question Type : MCQ Option Shuffling : No Is Question Mandatory : No Calculator : None Response Time : N.A Think Time : N.A Minimum Instruction Time : 0 Correct Marks : 5 Wrong Marks : 1

Question Key Details :

Key	Value
Comprehension	MCQ4

भास के कौनसे संस्कृत नाटक में परशुराम का श्राप महत्त्वपूर्ण भूमिका का निर्वहण करता है?

1. मध्यम व्यायोग
2. कर्णाभरणम्
3. उरुमंगम
4. दूतवाक्यम्

Options :

485584134841. 1
485584134842. 2
485584134843. 3
485584134844. 4

Question Number : 397 Question Id : 48558433712 Question Type : MCQ Option Shuffling : No Is Question Mandatory : No Calculator : None Response Time : N.A Think Time : N.A Minimum Instruction Time : 0

Correct Marks : 5 Wrong Marks : 1

Question Key Details :

Key	Value
Comprehension	MCQ4

In which sanskrit drama Charudatta and Vasantsena appears as Nayaka and Nayika?

1. Svapna Vasavadattam
2. Mahaveer Charitam
3. Mricchakatikam
4. Abhijnanshakuntalam

Options :

485584134845. 1
485584134846. 2
485584134847. 3
485584134848. 4

Question Number : 397 Question Id : 48558433712 Question Type : MCQ Option Shuffling : No Is Question Mandatory : No Calculator : None Response Time : N.A Think Time : N.A Minimum Instruction Time : 0

Correct Marks : 5 Wrong Marks : 1

Question Key Details :

Key	Value
Comprehension	MCQ4

कौन से संस्कृत नाटक में चारुदत्त और वसंतसेना नायक और नायिका के रूप में प्रदर्शित होते हैं?

1. स्वनावासवदत्तम्
2. महावीर चरितम्
3. मृच्छकटिकम्
4. अभिज्ञानशाकुंतलम्

Options :

485584134845. 1
485584134846. 2
485584134847. 3
485584134848. 4

Question Number : 398 Question Id : 48558433713 Question Type : MCQ Option Shuffling : No Is Question Mandatory : No Calculator : None Response Time : N.A Think Time : N.A Minimum Instruction Time : 0

Correct Marks : 5 Wrong Marks : 1

Question Key Details :

Key	Value
Comprehension	MCQ4

The traditional Theatre Form created by the great religious thinker and reformer Shankardeva of Assam is known as:

1. Ankia Nat
2. Rasaleela
3. Krishnattam
4. Chhau

Options :

485584134849. 1
485584134850. 2
485584134851. 3
485584134852. 4

Question Number : 398 Question Id : 48558433713 Question Type : MCQ Option Shuffling : No Is Question Mandatory : No Calculator : None Response Time : N.A Think Time : N.A Minimum Instruction Time : 0

Correct Marks : 5 Wrong Marks : 1

Question Key Details :

Key	Value
Comprehension	MCQ4

पारंपरिक नाट्य रूप जिसको आसाम के महान धार्मिक चिंतक और सुधारक शंकरदेव द्वारा सृजित किया गया था, पहचानी जाती है-

1. अंकिया नात
2. रासलीला
3. कृष्णाअट्टम
4. छऊ

Options :

485584134849. 1
485584134850. 2
485584134851. 3
485584134852. 4

Question Number : 399 Question Id : 48558433714 Question Type : MCQ Option Shuffling : No Is Question Mandatory : No Calculator : None Response Time : N.A Think Time : N.A Minimum Instruction Time : 0

Correct Marks : 5 Wrong Marks : 1

Question Key Details :

Key	Value
Comprehension	MCQ4

'Jokumarswami', the famous Kannada play is written by -

1. Girish Karnad
2. Adya Rangacharya
3. Chandrasekhar Kambar
4. H. S. Shivaprakash

Options :

485584134853. 1
485584134854. 2
485584134855. 3
485584134856. 4

Question Number : 399 Question Id : 48558433714 Question Type : MCQ Option Shuffling : No Is Question Mandatory : No Calculator : None Response Time : N.A Think Time : N.A Minimum Instruction Time : 0

Correct Marks : 5 Wrong Marks : 1

Question Key Details :

Key	Value
Comprehension	MCQ4

प्रसिद्ध कन्नड नाटक 'जोकुमारस्वामी' के लेखक है-

1. गिरिश कर्नाड
2. आद्य रंगाचार्य
3. चन्द्रशेखर काम्बार
4. एच.एस. शिवप्रकाश

Options :

485584134853. 1
485584134854. 2
485584134855. 3
485584134856. 4

Question Number : 400 Question Id : 48558433715 Question Type : MCQ Option Shuffling : No Is Question Mandatory : No Calculator : None Response Time : N.A Think Time : N.A Minimum Instruction Time : 0

Correct Marks : 5 Wrong Marks : 1

Question Key Details :

Key	Value
Comprehension	MCQ4

The famous Hindi play 'Adhe Adhure' which depicts the crisis of values faced by the middle class family, is written by:

1. Mohan Rakesh
2. Surendra Varma
3. Shankar Shesh
4. Mani Madhukar

Options :

485584134857. 1
485584134858. 2
485584134859. 3
485584134860. 4

Question Number : 400 Question Id : 48558433715 Question Type : MCQ Option Shuffling : No Is Question Mandatory : No Calculator : None Response Time : N.A Think Time : N.A Minimum Instruction Time : 0

Correct Marks : 5 Wrong Marks : 1

Question Key Details :

Key	Value
Comprehension	MCQ4

प्रसिद्ध हिन्दी नाटक 'आधे अधूरे' जिसमें मध्यम वर्ग के मूल्यों के संकच का चित्रण किया गया है उसके लेखक है-

1. मोहन राकेश
2. सुरेन्द्र वर्मा
3. शंकर शेष
4. मणि मधुकर

Options :

485584134857. 1
485584134858. 2
485584134859. 3
485584134860. 4

Question Number : 401 Question Id : 48558433716 Question Type : MCQ Option Shuffling : No Is Question Mandatory : No Calculator : None Response Time : N.A Think Time : N.A Minimum Instruction Time : 0

Correct Marks : 5 Wrong Marks : 1

Question Key Details :

Key	Value
Comprehension	MCQ4

The Director who is famous for directing Mahakavi Bhasa plays :

1. Jabbar Patel
2. K. N. Pannikar
3. Pravin Joshi
4. Rajendar Nath

Options :

485584134861. 1
485584134862. 2
485584134863. 3
485584134864. 4

Question Number : 401 Question Id : 48558433716 Question Type : MCQ Option Shuffling : No Is Question Mandatory : No Calculator : None Response Time : N.A Think Time : N.A Minimum Instruction Time : 0

Correct Marks : 5 Wrong Marks : 1

Question Key Details :

Key	Value
Comprehension	MCQ4

महाकवि भास के नाटक को निर्देशित करने पर ख्याति प्राप्त करने वाले निर्देशक :

1. जब्बार पटेल
2. के.एन. पणिककर
3. प्रवीण जोशी
4. राजेन्द्रनाथ

Options :

485584134861. 1
485584134862. 2
485584134863. 3
485584134864. 4

Question Number : 402 Question Id : 48558433717 Question Type : MCQ Option Shuffling : No Is Question Mandatory : No Calculator : None Response Time : N.A Think Time : N.A Minimum Instruction Time : 0

Correct Marks : 5 Wrong Marks : 1

Question Key Details :

Key	Value
Comprehension	MCQ4

'Hypokrites' is a Greek word meaning:

1. Actor
2. Director
3. Producer
4. Playwright

Options :

485584134865. 1
485584134866. 2
485584134867. 3
485584134868. 4

Question Number : 402 Question Id : 48558433717 Question Type : MCQ Option Shuffling : No Is Question Mandatory : No Calculator : None Response Time : N.A Think Time : N.A Minimum Instruction Time : 0

Correct Marks : 5 Wrong Marks : 1

Question Key Details :

Key	Value
Comprehension	MCQ4

ग्रीक शब्द 'Hypokrites' का अर्थ-

1. अभिनेता
2. निर्देशक
3. निर्भाता
4. नाट्य लेखक

Options :

485584134865. 1
485584134866. 2
485584134867. 3
485584134868. 4

Question Number : 403 Question Id : 48558433718 Question Type : MCQ Option Shuffling : No Is Question Mandatory : No Calculator : None Response Time : N.A Think Time : N.A Minimum Instruction Time : 0

Correct Marks : 5 Wrong Marks : 1

Question Key Details :

Key	Value
Comprehension	MCQ4

The only surviving Greek Trilogy is 'Aeschylus' -

1. The Persians
2. The Orestia
3. Agamemnon
4. The Eumenides

Options :

485584134869. 1
485584134870. 2
485584134871. 3
485584134872. 4

Question Number : 403 Question Id : 48558433718 Question Type : MCQ Option Shuffling : No Is Question Mandatory : No Calculator : None Response Time : N.A Think Time : N.A Minimum Instruction Time : 0

Correct Marks : 5 Wrong Marks : 1

Question Key Details :

Key	Value
Comprehension	MCQ4

एस्केलम द्वारा लिखित ग्रीक नाटक त्रयी का नाटक जो आज भी मिलता है-

1. The Persians
2. The Orestia
3. Agamemnon
4. The Eumenides

Options :

- 485584134869. 1
- 485584134870. 2
- 485584134871. 3
- 485584134872. 4

Question Number : 404 Question Id : 48558433719 Question Type : MCQ Option Shuffling : No Is Question Mandatory : No Calculator : None Response Time : N.A Think Time : N.A Minimum Instruction Time : 0

Correct Marks : 5 Wrong Marks : 1

Question Key Details :

Key	Value
Comprehension	MCQ4

Who among the following is NOT an acclaimed Shakespearean actor?

1. Charles Kean
2. Henry Irving
3. James Burbage
4. Laurence Olivier

Options :

- 485584134873. 1
- 485584134874. 2
- 485584134875. 3
- 485584134876. 4

Question Number : 404 Question Id : 48558433719 Question Type : MCQ Option Shuffling : No Is Question Mandatory : No Calculator : None Response Time : N.A Think Time : N.A Minimum Instruction Time : 0

Correct Marks : 5 Wrong Marks : 1

Question Key Details :

Key	Value
Comprehension	MCQ4

निम्न में से कौन प्रशंसित शेक्सपीरियन अभिनेता नहीं है?

1. Charles Kean
2. Henry Irving
3. James Burbage
4. Laurence Olivier

Options :

485584134873. 1
485584134874. 2
485584134875. 3
485584134876. 4

Question Number : 405 Question Id : 48558433720 Question Type : MCQ Option Shuffling : No Is Question Mandatory : No Calculator : None Response Time : N.A Think Time : N.A Minimum Instruction Time : 0

Correct Marks : 5 Wrong Marks : 1

Question Key Details :

Key	Value
Comprehension	MCQ4

Which among the following plays is written by Anton Chekhov?

1. The Lower Depths
2. The Lesson
3. The Seagull
4. The Weavers

Options :

485584134877. 1
485584134878. 2
485584134879. 3
485584134880. 4

Question Number : 405 Question Id : 48558433720 Question Type : MCQ Option Shuffling : No Is Question Mandatory : No Calculator : None Response Time : N.A Think Time : N.A Minimum Instruction Time : 0

Correct Marks : 5 Wrong Marks : 1

Question Key Details :

Key	Value
Comprehension	MCQ4

निम्न में से एन्टोन चैखव का लिखा नाटक है?

1. The Lower Depths
2. The Lesson
3. The Seagull
4. The Weavers

Options :

485584134877. 1
485584134878. 2
485584134879. 3
485584134880. 4

Question Number : 406 Question Id : 48558433721 Question Type : MCQ Option Shuffling : No Is Question Mandatory : No Calculator : None Response Time : N.A Think Time : N.A Minimum Instruction Time : 0

Correct Marks : 5 Wrong Marks : 1

Question Key Details :

Key	Value
Comprehension	MCQ4

Which among the following plays is NOT written by Samuel Beckett?

1. Waiting for Godot
2. Happy days
3. The Birthday Party
4. Endgame

Options :

485584134881. 1
485584134882. 2
485584134883. 3
485584134884. 4

Question Number : 406 Question Id : 48558433721 Question Type : MCQ Option Shuffling : No Is Question Mandatory : No Calculator : None Response Time : N.A Think Time : N.A Minimum Instruction Time : 0

Correct Marks : 5 Wrong Marks : 1

Question Key Details :

Key	Value
Comprehension	MCQ4

निम्न में से कौनसा नाटक सैमुअल बैकेट ने नहीं लिखा?

1. Waiting for Godot
2. Happy days
3. The Birthday Party
4. Endgame

Options :

485584134881. 1
485584134882. 2
485584134883. 3
485584134884. 4

Question Number : 407 Question Id : 48558433722 Question Type : MCQ Option Shuffling : No Is Question Mandatory : No Calculator : None Response Time : N.A Think Time : N.A Minimum Instruction Time : 0

Correct Marks : 5 Wrong Marks : 1

Question Key Details :

Key	Value
Comprehension	MCQ4

Meyerhold's contribution to theatre was:

1. Realism
2. Constructivism
3. Alienation
4. Fantastic Realism

Options :

485584134885. 1
485584134886. 2
485584134887. 3
485584134888. 4

Question Number : 407 Question Id : 48558433722 Question Type : MCQ Option Shuffling : No Is Question Mandatory : No Calculator : None Response Time : N.A Think Time : N.A Minimum Instruction Time : 0

Correct Marks : 5 Wrong Marks : 1

Question Key Details :

Key	Value
Comprehension	MCQ4

Meyerhold का रंगमंच के लिये योगदान था:

1. यथार्थवादी (Realism)
2. निर्माणवादी (Constructivism)
3. अलगाव का सिद्धांत (Alienation)
4. विलक्षण यथार्थवादी (Fantastic Realism)

Options :

485584134885. 1
485584134886. 2
485584134887. 3
485584134888. 4

Question Number : 408 Question Id : 48558433723 Question Type : MCQ Option Shuffling : No Is Question Mandatory : No Calculator : None Response Time : N.A Think Time : N.A Minimum Instruction Time : 0

Correct Marks : 5 Wrong Marks : 1

Question Key Details :

Key	Value
Comprehension	MCQ4

On the Picture Frame stage, the inner proscenium consists of a floor-length side drapes, which are called:

1. Projections
2. Grand draperies
3. Tormentors
4. Teasers

Options :

485584134889. 1
485584134890. 2
485584134891. 3
485584134892. 4

Question Number : 408 Question Id : 48558433723 Question Type : MCQ Option Shuffling : No Is Question Mandatory : No Calculator : None Response Time : N.A Think Time : N.A Minimum Instruction Time : 0

Correct Marks : 5 Wrong Marks : 1

Question Key Details :

Key	Value
Comprehension	MCQ4

पिक्चर फ्रेम मंच में, प्रोसीनियम के अंदर की ओर फ्लोर तक की लम्बाई में कपड़े की पट्टिकाएँ होती हैं, वह कहलाती है:

1. Projections
2. Grand draperies
3. Tormentors
4. Teasers

Options :

485584134889. 1
485584134890. 2
485584134891. 3
485584134892. 4

Question Number : 409 Question Id : 48558433724 Question Type : MCQ Option Shuffling : No Is Question Mandatory : No Calculator : None Response Time : N.A Think Time : N.A Minimum Instruction Time : 0

Correct Marks : 5 Wrong Marks : 1

Question Key Details :

Key	Value
Comprehension	MCQ4

A fire-retardant curtain that can be lowered to fill the proscenium arch, is called:

1. Front Curtain
2. Asbestos Curtain
3. Back Curtain
4. Cyclorama

Options :

485584134893. 1
485584134894. 2
485584134895. 3
485584134896. 4

Question Number : 409 Question Id : 48558433724 Question Type : MCQ Option Shuffling : No Is Question Mandatory : No Calculator : None Response Time : N.A Think Time : N.A Minimum Instruction Time : 0

Correct Marks : 5 Wrong Marks : 1

Question Key Details :

Key	Value
Comprehension	MCQ4

एक अग्नि अवरोधक पर्दा जो प्रोसीनियम आर्क को ढकने हेतु नीचे तक होता है, कहलाता है:

1. मुख्य पर्दा (Front Curtain)
2. एजबेस्टॉस पर्दा (Asbestos Curtain)
3. पीछे का पर्दा (Back Curtain)
4. साइक्लोरामा (Cyclorama)

Options :

485584134893. 1
485584134894. 2
485584134895. 3
485584134896. 4

Question Number : 410 Question Id : 48558433725 Question Type : MCQ Option Shuffling : No Is Question Mandatory : No Calculator : None Response Time : N.A Think Time : N.A Minimum Instruction Time : 0

Correct Marks : 5 Wrong Marks : 1

Question Key Details :

Key	Value
Comprehension	MCQ4

What is used as foundation or base for the rest of the Makeup?

1. Greasepaint
2. Mascara
3. Rouge
4. Powder

Options :

485584134897. 1
485584134898. 2
485584134899. 3
485584134900. 4

Question Number : 410 Question Id : 48558433725 Question Type : MCQ Option Shuffling : No Is Question Mandatory : No Calculator : None Response Time : N.A Think Time : N.A Minimum Instruction Time : 0

Correct Marks : 5 Wrong Marks : 1

Question Key Details :

Key	Value
Comprehension	MCQ4

रुपसज्जा को पूर्णता देने हेतु आधार के रूप में क्या प्रयोग में लाया जाता है?

1. ग्रीसपेन्ट (Greasepaint)
2. मसकारा (Mascara)
3. रज़ (Rouge)
4. पाउडर (Powder)

Options :

485584134897. 1
485584134898. 2
485584134899. 3
485584134900. 4

Question Number : 411 Question Id : 48558433726 Question Type : MCQ Option Shuffling : No Is Question Mandatory : No Calculator : None Response Time : N.A Think Time : N.A Minimum Instruction Time : 0

Correct Marks : 5 Wrong Marks : 1

Question Key Details :

Key	Value
Comprehension	MCQ4

The three plays written by Kalidasa are:

- A. Malvika Agnimitram
- B. Abhijnan Shakuntalam
- C. Svapna Vasavdattam
- D. Vikramorvashiyam
- E. Uttara Ramacharitam

Choose the correct answer from the options given below:

1. D, E and B only
2. A, B and D only
3. B, C and E only
4. C, D and A only

Options :

485584134901. 1
485584134902. 2
485584134903. 3
485584134904. 4

Question Number : 411 Question Id : 48558433726 Question Type : MCQ Option Shuffling : No Is Question Mandatory : No Calculator : None Response Time : N.A Think Time : N.A Minimum Instruction Time : 0

Correct Marks : 5 Wrong Marks : 1

Question Key Details :

Key	Value
Comprehension	MCQ4

कालिदास द्वारा लिखित तीन नाटक हैं:

- A. मालविकाग्निमित्रम्
- B. अभिज्ञान शाकुन्तलम्
- C. स्वप्नवासवदत्तम्
- D. विक्रमोर्वशीयम्
- E. उत्तर रामचरितम्

नीचे दिए गए विकल्पों में से सबसे उपयुक्त उत्तर का चयन कीजिए:

- 1. केवल D, E और B
- 2. केवल A, B और D
- 3. केवल B, C और E
- 4. केवल C, D और A

Options :

- 485584134901. 1
- 485584134902. 2
- 485584134903. 3
- 485584134904. 4

Question Number : 412 Question Id : 48558433727 Question Type : MCQ Option Shuffling : No Is Question Mandatory : No Calculator : None Response Time : N.A Think Time : N.A Minimum Instruction Time : 0

Correct Marks : 5 Wrong Marks : 1

Question Key Details :

Key	Value
Comprehension	MCQ4

The three famous plays written by Rabindranath Tagore are:

- A. Visarjan
- B. Rajdarshan
- C. Dakghar
- D. Nabanna
- E. Muktheadhara

Choose the correct answer from the options given below:

- 1. D, A and C only
- 2. A, C and E only
- 3. B, D and A only
- 4. C, E and B only

Options :

- 485584134905. 1
- 485584134906. 2
- 485584134907. 3
- 485584134908. 4

Question Number : 412 Question Id : 48558433727 Question Type : MCQ Option Shuffling : No Is Question Mandatory : No Calculator : None Response Time : N.A Think Time : N.A Minimum Instruction Time : 0

Correct Marks : 5 Wrong Marks : 1

Question Key Details :

Key	Value
Comprehension	MCQ4

रविन्द्रनाथ टैगोर लिखित तीन नाटक हैं:

- A. विसर्जन
- B. राजदर्शन
- C. डाकघर
- D. नबाना
- E. मुक्ताधार

नीचे दिए गए विकल्पों में से सबसे उपयुक्त उत्तर का चयन कीजिए:

1. केवल D, A और C
2. केवल A, C और E
3. केवल B, D और A
4. केवल C, E और B

Options :

- 485584134905. 1
- 485584134906. 2
- 485584134907. 3
- 485584134908. 4

Question Number : 413 Question Id : 48558433728 Question Type : MCQ Option Shuffling : No Is Question Mandatory : No Calculator : None Response Time : N.A Think Time : N.A Minimum Instruction Time : 0

Correct Marks : 5 Wrong Marks : 1

Question Key Details :

Key	Value
Comprehension	MCQ4

Identify from the following the three Shakespearean Comedies:

- A. Julius Caesar
- B. The Comedy of Errors
- C. The Two Gentlemen of Verona
- D. The Taming of the Shrew
- E. King Lear

Choose the correct answer from the options given below:

- 1. B, C and D only
- 2. A, B and C only
- 3. C, D and E only
- 4. A, C and E only

Options :

- 485584134909. 1
- 485584134910. 2
- 485584134911. 3
- 485584134912. 4

Question Number : 413 Question Id : 48558433728 Question Type : MCQ Option Shuffling : No Is Question Mandatory : No Calculator : None Response Time : N.A Think Time : N.A Minimum Instruction Time : 0

Correct Marks : 5 Wrong Marks : 1

Question Key Details :

Key	Value
Comprehension	MCQ4

निम्नलिखित में से शेक्सपियर विरचित तीन हास्य नाटकों की पहचान कीजिये.

- A. ज्यूलिसस सीज़र (Julius Caesar)
- B. द कॉमेडी ऑफ़ एरर्स (The comedy of errors)
- C. द टू जैन्टलमैन ऑफ़ वेरोना (The Two Gentlemen of Verona)
- D. द टेमिंग ऑफ़ श्रू (The Taming of shrew)
- E. किंग लियर (King Lear)

नीचे दिए गए विकल्पों में से सबसे उपयुक्त उत्तर का चयन कीजिए:

- 1. केवल B, C और D
- 2. केवल A, B और C
- 3. केवल C, D और E
- 4. केवल A, C और E

Options :

- 485584134909. 1
- 485584134910. 2
- 485584134911. 3
- 485584134912. 4

Question Number : 414 Question Id : 48558433729 Question Type : MCQ Option Shuffling : No Is Question Mandatory : No Calculator : None Response Time : N.A Think Time : N.A Minimum Instruction Time : 0 Correct Marks : 5 Wrong Marks : 1

Question Key Details :

Key	Value
Comprehension	MCQ4

Identify from among the following, the three plays written by Harold Pinter:

- A. Homecoming
- B. The Caretaker
- C. The Chairs
- D. Endgame
- E. The Birthday Party

Choose the correct answer from the options given below:

- 1. A, B and E only
- 2. B, C and A only
- 3. C, D and B only
- 4. D, E and A only

Options :

- 485584134913. 1
- 485584134914. 2
- 485584134915. 3
- 485584134916. 4

Question Number : 414 Question Id : 48558433729 Question Type : MCQ Option Shuffling : No Is Question Mandatory : No Calculator : None Response Time : N.A Think Time : N.A Minimum Instruction Time : 0 Correct Marks : 5 Wrong Marks : 1

Question Key Details :

Key	Value
Comprehension	MCQ4

निम्नलिखित नाटकों में से हेरोल्ड पिंटर द्वारा लिखित नाटकों की पहचान कीजिये।

- A. होमकमिंग (Homecoming)
- B. द केयर टेकर (The Caretaker)
- C. द चेयर्स (The Chairs)
- D. एंडगेम (Endgame)
- E. द बर्थडे पार्टी (The Birthday Party)

नीचे दिए गए विकल्पों में से सबसे उपयुक्त उत्तर का चयन कीजिए:

1. केवल A, B और E
2. केवल B, C और A
3. केवल C, D और B
4. केवल D, E और A

Options :

- 485584134913. 1
- 485584134914. 2
- 485584134915. 3
- 485584134916. 4

Question Number : 415 Question Id : 48558433730 Question Type : MCQ Option Shuffling : No Is Question Mandatory : No Calculator : None Response Time : N.A Think Time : N.A Minimum Instruction Time : 0

Correct Marks : 5 Wrong Marks : 1

Question Key Details :

Key	Value
Comprehension	MCQ4

Lee Strasberg was associated with which three of the following?

- A. Berliner Ensemble
- B. Royal Shakespeare Company
- C. Theatre Guild
- D. Group Theatre
- E. Actors' Studio

Choose the correct answer from the options given below:

1. A, B and D only
2. C, D and E only
3. B, C and D only
4. A, C and E only

Options :

- 485584134917. 1
- 485584134918. 2
- 485584134919. 3
- 485584134920. 4

Question Number : 415 Question Id : 48558433730 Question Type : MCQ Option Shuffling : No Is Question Mandatory : No Calculator : None Response Time : N.A Think Time : N.A Minimum Instruction Time : 0 Correct Marks : 5 Wrong Marks : 1

Question Key Details :

Key	Value
Comprehension	MCQ4

निम्न में से किन तीन के साथ ली स्ट्रेसबर्ग का संबंध था?

- A. Berliner Ensemble
- B. Royal Shakespeare Company
- C. Theatre Guild
- D. Group Theatre
- E. Actors Studio

नीचे दिए गए विकल्पों में से सही उत्तर का चयन कीजिए:

1. केवल A, B और D
2. केवल C, D और E
3. केवल B, C और D
4. केवल A, C और E

Options :

- 485584134917. 1
- 485584134918. 2
- 485584134919. 3
- 485584134920. 4

Question Number : 416 Question Id : 48558433731 Question Type : MCQ Option Shuffling : No Is Question Mandatory : No Calculator : None Response Time : N.A Think Time : N.A Minimum Instruction Time : 0 Correct Marks : 5 Wrong Marks : 1

Question Key Details :

Key	Value
Comprehension	MCQ4

Match List I with List II

LIST I		LIST II	
A.	Kalidasa	I.	Svapna Vasavadattam
B.	Bhavabhuti	II.	Mricchakatikam
C.	Shudraka	III.	Abhijnan Shakuntalam
D.	Bhasa	IV.	Uttara Ramacharitam

Choose the correct answer from the options given below:

1. A-I, B-II, C-IV, D-III
2. A-II, B-III, C-I, D-IV
3. A-III, B-IV, C-II, D-I
4. A-IV, B-I, C-III, D-II

Options :

485584134921. 1
485584134922. 2
485584134923. 3
485584134924. 4

Question Number : 416 Question Id : 48558433731 Question Type : MCQ Option Shuffling : No Is Question Mandatory : No Calculator : None Response Time : N.A Think Time : N.A Minimum Instruction Time : 0

Correct Marks : 5 Wrong Marks : 1

Question Key Details :

Key	Value
Comprehension	MCQ4

सूची I के साथ सूची II का मिलान कीजिए
निम्न लेखकों का उनके द्वारा लिखित नाटकों से मिलान कीजिये

सूची I लेखक		सूची II नाटक	
A.	कालिदास	I.	स्वप्नवासवदत्तम्
B.	भवभूति	II.	मृच्छिकटिकम्
C.	शूद्रक	III.	अभिज्ञानशाकुन्तलम्
D.	भास	IV.	उत्तररामचरितम्

नीचे दिए गए विकल्पों में से सही उत्तर का चयन कीजिए:

1. A-I, B-II, C-IV, D-III
2. A-II, B-III, C-I, D-IV
3. A-III, B-IV, C-II, D-I
4. A-IV, B-I, C-III, D-II

Options :

485584134921. 1
485584134922. 2

485584134923. 3

485584134924. 4

Question Number : 417 Question Id : 48558433732 Question Type : MCQ Option Shuffling : No Is Question Mandatory : No Calculator : None Response Time : N.A Think Time : N.A Minimum Instruction Time : 0

Correct Marks : 5 Wrong Marks : 1

Question Key Details :

Key	Value
Comprehension	MCQ4

Match List I with List II

LIST I		LIST II	
A.	Vijaya Mehta	I.	Santu Rangili
B.	Satyadev Dubey	II.	Andha Yug
C.	E. Alkazi	III.	Are Mayavi Sarovar
D.	Pravin Joshi	IV.	Ek Shunya Bajirao

Choose the correct answer from the options given below:

1. A-II, B-I, C-IV, D-III
2. A-III, B-II, C-I, D-IV
3. A-IV, B-III, C-II, D-I
4. A-I, B-IV, C-III, D-II

Options :

485584134925. 1

485584134926. 2

485584134927. 3

485584134928. 4

Question Number : 417 Question Id : 48558433732 Question Type : MCQ Option Shuffling : No Is Question Mandatory : No Calculator : None Response Time : N.A Think Time : N.A Minimum Instruction Time : 0

Correct Marks : 5 Wrong Marks : 1

Question Key Details :

Key	Value
Comprehension	MCQ4

सूची I के साथ सूची II का मिलान कीजिए।
निम्न रंगनिर्देशकों का उनके द्वारा निर्देशित नाटकों से मिलान कीजिये।

सूची I		सूची II	
A.	विजया मेहता	I.	सन्तु रंगीली
B.	सत्यदेव दुबे	II.	अंधायुग
C.	ई. अल्काज़ी	III.	अरे मायावी सरोवर
D.	प्रवीण जोशी	IV.	एक शून्य बाजीराव

नीचे दिए गए विकल्पों में से सही उत्तर का चयन कीजिए:

1. A-II, B-I, C-IV, D-III
2. A-III, B-II, C-I, D-IV
3. A-IV, B-III, C-II, D-I
4. A-I, B-IV, C-III, D-II

Options :

485584134925. 1
485584134926. 2
485584134927. 3
485584134928. 4

Question Number : 418 Question Id : 48558433733 Question Type : MCQ Option Shuffling : No Is Question Mandatory : No Calculator : None Response Time : N.A Think Time : N.A Minimum Instruction Time : 0

Correct Marks : 5 Wrong Marks : 1

Question Key Details :

Key	Value
Comprehension	MCQ4

Match List I with List II

LIST I		LIST II	
Plays		Characters	
A.	Julius Caesar	I.	Horatio
B.	Othello	II.	King Duncan
C.	Macbeth	III.	Desdemona
D.	Hamlet	IV.	Marcus Brutus

Choose the correct answer from the options given below:

1. A-IV, B-III, C-II, D-I
2. A-I, B-II, C-III, D-IV
3. A-IV, B-I, C-III, D-II
4. A-II, B-III, C-I, D-IV

Options :

485584134929. 1
485584134930. 2

485584134931. 3

485584134932. 4

Question Number : 418 Question Id : 48558433733 Question Type : MCQ Option Shuffling : No Is Question Mandatory : No Calculator : None Response Time : N.A Think Time : N.A Minimum Instruction Time : 0

Correct Marks : 5 Wrong Marks : 1

Question Key Details :

Key	Value
Comprehension	MCQ4

सूची I के साथ सूची II का मिलान कीजिए
निम्न नाटकों का उसके चरित्रों से मिलान कीजिये।

सूची I नाटक	सूची II चरित्र
A. जूलियस सीज़र	I. होरात
B. आथेनो	II. किंग डंकन
C. मेकबेथ	III. डैसडेमोना
D. हेमलेट	IV. मार्कस ब्रूटस

नीचे दिए गए विकल्पों में से सही उत्तर का चयन कीजिए:

1. A-IV, B-III, C-II, D-I
2. A-I, B-II, C-III, D-IV
3. A-IV, B-I, C-III, D-II
4. A-II, B-III, C-I, D-IV

Options :

485584134929. 1

485584134930. 2

485584134931. 3

485584134932. 4

Question Number : 419 Question Id : 48558433734 Question Type : MCQ Option Shuffling : No Is Question Mandatory : No Calculator : None Response Time : N.A Think Time : N.A Minimum Instruction Time : 0

Correct Marks : 5 Wrong Marks : 1

Question Key Details :

Key	Value
Comprehension	MCQ4

Match List I with List II

LIST I		LIST II	
A.	Ibsen Henrik	I.	The Father
B.	Chekhov Anton	II.	Ghosts
C.	Strindberg August	III.	Death of a Salesman
D.	Arthur Miller	IV.	The Cherry Orchard

Choose the correct answer from the options given below:

1. A-I, B-III, C-IV, D-II
2. A-II, B-IV, C-I, D-III
3. A-III, B-I, C-II, D-IV
4. A-IV, B-II, C-III, D-I

Options :

485584134933. 1
485584134934. 2
485584134935. 3
485584134936. 4

Question Number : 419 Question Id : 48558433734 Question Type : MCQ Option Shuffling : No Is Question Mandatory : No Calculator : None Response Time : N.A Think Time : N.A Minimum Instruction Time : 0

Correct Marks : 5 Wrong Marks : 1

Question Key Details :

Key	Value
Comprehension	MCQ4

सूची I के साथ सूची II का मिलान कीजिए
यूरोपीय नाट्य लेखकों का उनके द्वारा लिखित नाटकों से मिलान कीजिये

सूची I		सूची II	
A.	इब्सेन हेनरिक	I.	दी-फादर
B.	चेखव एन्टोन	II.	घोस्ट्स
C.	स्ट्रिंडबर्ग आगस्ट	III.	डेथ ऑफ ए सेल्समैन
D.	आर्थर मिलर	IV.	दी चैरी आर्चर्ड

नीचे दिए गए विकल्पों में से सही उत्तर का चयन कीजिए:

1. A-I, B-III, C-IV, D-II
2. A-II, B-IV, C-I, D-III
3. A-III, B-I, C-II, D-IV
4. A-IV, B-II, C-III, D-I

Options :

485584134933. 1
485584134934. 2
485584134935. 3

Question Number : 420 Question Id : 48558433735 Question Type : MCQ Option Shuffling : No Is Question Mandatory : No Calculator : None Response Time : N.A Think Time : N.A Minimum Instruction Time : 0

Correct Marks : 5 Wrong Marks : 1

Question Key Details :

Key	Value
Comprehension	MCQ4

Give the correct sequence of the following Traditional Theatre Forms according to their Geographical origin from South to North.

- A. Tamasha
- B. Yakshagana
- C. Bhand Jashna
- D. Kutiyattam
- E. Svanga

Choose the correct answer from the options given below:

- 1. D, B, A, E, C
- 2. E, C, B, A, D
- 3. A, D, C, B, E
- 4. B, E, D, C, A

Options :

- 485584134937. 1
- 485584134938. 2
- 485584134939. 3
- 485584134940. 4

Question Number : 420 Question Id : 48558433735 Question Type : MCQ Option Shuffling : No Is Question Mandatory : No Calculator : None Response Time : N.A Think Time : N.A Minimum Instruction Time : 0

Correct Marks : 5 Wrong Marks : 1

Question Key Details :

Key	Value
Comprehension	MCQ4

निम्नलिखित पारंपरिक रंगमंच शैलियों को उनके भूगोलीय उदगम दक्षिण से उत्तर के क्रम में व्यवस्थित कीजिये.

- A. तमाशा
- B. यक्षगान
- C. भांड जश्न
- D. कुटीयट्टम
- E. स्वांग

नीचे दिए गए विकल्पों में से सही उत्तर का चयन कीजिए:

- 1. D, B, A, E, C
- 2. E, C, B, A, D
- 3. A, D, C, B, E
- 4. B, E, D, C, A

Options :

- 485584134937. 1
- 485584134938. 2
- 485584134939. 3
- 485584134940. 4

Political Science

Group Number :	11
Group Id :	485584749
Group Maximum Duration :	45
Group Minimum Duration :	45
Show Attended Group? :	No
Edit Attended Group? :	No
Break time :	0
Group Marks :	200
Is this Group for Examiner? :	No
Examiner permission :	Cant View
Show Progress Bar? :	No

Political Science

Section Id :	485584867
Section Number :	1
Section type :	Online
Mandatory or Optional :	Mandatory
Number of Questions :	50
Number of Questions to be attempted :	40
Section Marks :	200
Enable Mark as Answered Mark for Review and Clear Response :	Yes
Maximum Instruction Time :	0
Sub-Section Number :	1
Sub-Section Id :	4855842442

Question Shuffling Allowed :

Yes

Is Section Default? :

null

Question Number : 421 Question Id : 48558433736 Question Type : MCQ Option Shuffling : No Is Question Mandatory : No Calculator : None Response Time : N.A Think Time : N.A Minimum Instruction Time : 0

Correct Marks : 5 Wrong Marks : 1

Question Key Details :

Key	Value
Comprehension	MCQ

Prime minister of India addressed a special speech on 14th and 15th August midnight.

It was called:

1. Trust in the Nation
2. Tryst with India
3. Tryst with destiny
4. Independent India

Options :

485584134941. 1

485584134942. 2

485584134943. 3

485584134944. 4

Question Number : 421 Question Id : 48558433736 Question Type : MCQ Option Shuffling : No Is Question Mandatory : No Calculator : None Response Time : N.A Think Time : N.A Minimum Instruction Time : 0

Correct Marks : 5 Wrong Marks : 1

Question Key Details :

Key	Value
Comprehension	MCQ

14 और 15 अगस्त की मध्यरात्रि को भारत के प्रधानमंत्री ने एक विशेष भाषण दिया, जिसे कहा गया:

1. ट्रस्ट इन द नेशन
2. ट्रिस्ट विद इण्डिया
3. ट्रिस्ट विद डेस्टिनी
4. स्वतंत्र भारत

Options :

485584134941. 1

485584134942. 2

485584134943. 3

485584134944. 4

Question Number : 422 Question Id : 48558433737 Question Type : MCQ Option Shuffling : No Is Question Mandatory : No Calculator : None Response Time : N.A Think Time : N.A Minimum Instruction Time : 0

Correct Marks : 5 Wrong Marks : 1

Question Key Details :

Key	Value
Comprehension	MCQ

State requisition Act was passed in which year?

1. 1952
2. 1954
3. 1956
4. 1958

Options :

485584134945. 1
485584134946. 2
485584134947. 3
485584134948. 4

Question Number : 422 Question Id : 48558433737 Question Type : MCQ Option Shuffling : No Is Question Mandatory : No Calculator : None Response Time : N.A Think Time : N.A Minimum Instruction Time : 0

Correct Marks : 5 Wrong Marks : 1

Question Key Details :

Key	Value
Comprehension	MCQ

राज्य पुनर्गणन अधिनियम किस वर्ष में पारित हुआ?

1. 1952
2. 1954
3. 1956
4. 1958

Options :

485584134945. 1
485584134946. 2
485584134947. 3
485584134948. 4

Question Number : 423 Question Id : 48558433738 Question Type : MCQ Option Shuffling : No Is Question Mandatory : No Calculator : None Response Time : N.A Think Time : N.A Minimum Instruction Time : 0

Correct Marks : 5 Wrong Marks : 1

Question Key Details :

Key	Value
Comprehension	MCQ

Given below are two statements: one is labelled as Assertion A and other is labelled as Reason R

Assertion A: Towards the end of 1990's the election commission started using the EVM.

Reason R: By 2004 the entire country had shifted to the EVM. But it was decided to place inside each polling booth a box for each candidate.

In the light of the above statements, choose the correct answer from the options given below

1. Both A and R are true and R is the correct explanation of A
2. Both A and R are true but R is the NOT correct explanation of A
3. A is true but R is not false
4. A is false but R is true

Options :

485584134949. 1
485584134950. 2
485584134951. 3
485584134952. 4

Question Number : 423 Question Id : 48558433738 Question Type : MCQ Option Shuffling : No Is Question Mandatory : No Calculator : None Response Time : N.A Think Time : N.A Minimum Instruction Time : 0

Correct Marks : 5 Wrong Marks : 1

Question Key Details :

Key	Value
Comprehension	MCQ

नीचे दो कथन दिए गए हैं: एक अभिकथन (Assertion A) के रूप में लिखित है तो दूसरा उसके कारण (Reason R) के रूप में

अभिकथन A: सन 1990 के दशक के अंत में चुनाव आयोग ने ईवीएम का इस्तेमाल शुरू हुआ।

कारण R: सन 2004 तक पूरे देश में ईवीएम का इस्तेमाल चालू हो गया। किन्तु यह निर्णय लिया गया कि प्रत्येक उम्मीदवार के लिए एक बॉक्स पोलिंग बूथ के अन्दर रखा जाय।

उपरोक्त कथन के आलोक में, नीचे दिए गए विकल्पों में से सही उत्तर का चयन कीजिए

1. A और R दोनों सत्य हैं और R, A की सही व्याख्या है
2. A और R दोनों सत्य हैं, लेकिन R, A की सही व्याख्या नहीं है
3. A सत्य है, लेकिन R असत्य है
4. A असत्य है, लेकिन R सत्य है

Options :

485584134949. 1
485584134950. 2
485584134951. 3

485584134952. 4

Question Number : 424 Question Id : 48558433739 Question Type : MCQ Option Shuffling : No Is Question Mandatory : No Calculator : None Response Time : N.A Think Time : N.A Minimum Instruction Time : 0

Correct Marks : 5 Wrong Marks : 1

Question Key Details :

Key	Value
Comprehension	MCQ

Match List I with List II

LIST I		LIST II	
A.	Adopted Buddhism in 1956 and the leader of anti-caste movement	I.	PRI
B.	Founded in 1929, as National revolutionary party	II.	Acharya Narendra Dev
C.	Freedom fighter and a scholar of Buddhism	III.	Bhartiya Jan Sangh
D.	In 1951 party was formed with Shyam Prasad Mukherjee	IV.	Babasaheb Bhimrao Ambedkar

Choose the correct answer from the options given below:

1. A-I, B-II, C-III, D-IV
2. A-IV, B-I, C-II, D-III
3. A-III, B-II, C-IV, D-I
4. A-IV, B-III, C-II, D-I

Options :

- 485584134953. 1
- 485584134954. 2
- 485584134955. 3
- 485584134956. 4

Question Number : 424 Question Id : 48558433739 Question Type : MCQ Option Shuffling : No Is Question Mandatory : No Calculator : None Response Time : N.A Think Time : N.A Minimum Instruction Time : 0

Correct Marks : 5 Wrong Marks : 1

Question Key Details :

Key	Value
Comprehension	MCQ

सूची I का सूची II से मिलान कीजिए

सूची I		सूची II	
A.	1956 में बौद्ध धर्म अपनाया और जाति विरोधी आन्दोलन के नेता	I.	पी आर आई
B.	1929 में स्थापित नेशनल रेवोल्यूशनरी पार्टी	II.	आचार्य नरेंद्र देव
C.	स्वतंत्रता सेनानी और बौद्ध धर्म के विद्वान	III.	भारतीय जन संघ
D.	इस पार्टी की स्थापना 1951 में श्यामा प्रसाद मुखर्जी द्वारा हुई	IV.	बाबा साहेब भीमराव अम्बेडकर

निम्नलिखित विकल्पों में से सही उत्तर का चयन कीजिए :

1. A-I, B-II, C-III, D-IV
2. A-IV, B-I, C-II, D-III
3. A-III, B-II, C-IV, D-I
4. A-IV, B-III, C-II, D-I

Options :

485584134953. 1
485584134954. 2
485584134955. 3
485584134956. 4

Question Number : 425 Question Id : 48558433740 Question Type : MCQ Option Shuffling : No Is Question Mandatory : No Calculator : None Response Time : N.A Think Time : N.A Minimum Instruction Time : 0

Correct Marks : 5 Wrong Marks : 1

Question Key Details :

Key	Value
Comprehension	MCQ

Who was the director of Marathi Film Simhasan?

1. Jabbar Patel
2. Vijay Tendulkar
3. Datta Bhat
4. Mohan Agashe

Options :

485584134957. 1
485584134958. 2
485584134959. 3
485584134960. 4

Question Number : 425 Question Id : 48558433740 Question Type : MCQ Option Shuffling : No Is Question Mandatory : No Calculator : None Response Time : N.A Think Time : N.A Minimum Instruction Time : 0

Correct Marks : 5 Wrong Marks : 1

Question Key Details :

Key	Value
Comprehension	MCQ

मराठी फिल्म सिंघासन का निर्देशक कौन था?

1. जब्बार पटेल
2. विजय तेंदुलकर
3. दत्ता भट्ट
4. मोहन अगाशे

Options :

485584134957. 1
485584134958. 2
485584134959. 3
485584134960. 4

Question Number : 426 Question Id : 48558433741 Question Type : MCQ Option Shuffling : No Is Question Mandatory : No Calculator : None Response Time : N.A Think Time : N.A Minimum Instruction Time : 0

Correct Marks : 5 Wrong Marks : 1

Question Key Details :

Key	Value
Comprehension	MCQ

A section of the big industrialist got together in 1944 and drafted a joint proposal for setting up a planned economy in the country. It was called _____

1. Industries Plan
2. New strategy of business
3. Bombay Plan
4. Revised Plan

Options :

485584134961. 1
485584134962. 2
485584134963. 3
485584134964. 4

Question Number : 426 Question Id : 48558433741 Question Type : MCQ Option Shuffling : No Is Question Mandatory : No Calculator : None Response Time : N.A Think Time : N.A Minimum Instruction Time : 0

Correct Marks : 5 Wrong Marks : 1

Question Key Details :

Key	Value
Comprehension	MCQ

1944 में उद्योगपतियों का एक तबका एकजुट हुआ और देश में नियोजित अर्थव्यवस्था चलाने का एक संयुक्त प्रस्ताव तैयार किया। इस प्रस्ताव को कहा गया-

1. औद्योगिक प्लान
2. व्यापार के लिए नई रणनीति
3. बॉम्बे प्लान
4. रीवाइज्ड प्लान

Options :

485584134961. 1
485584134962. 2
485584134963. 3
485584134964. 4

Question Number : 427 Question Id : 48558433742 Question Type : MCQ Option Shuffling : No Is Question Mandatory : No Calculator : None Response Time : N.A Think Time : N.A Minimum Instruction Time : 0

Correct Marks : 5 Wrong Marks : 1

Question Key Details :

Key	Value
Comprehension	MCQ

NITI Ayog came into existence on which date?

1. 7 January 2015
2. 1 January 2015
3. 10 January 2015
4. 12 January 2015

Options :

485584134965. 1
485584134966. 2
485584134967. 3
485584134968. 4

Question Number : 427 Question Id : 48558433742 Question Type : MCQ Option Shuffling : No Is Question Mandatory : No Calculator : None Response Time : N.A Think Time : N.A Minimum Instruction Time : 0

Correct Marks : 5 Wrong Marks : 1

Question Key Details :

Key	Value
Comprehension	MCQ

नीति आयोग किस तारीख को अस्तित्व में आया?

1. 7 जनवरी 2015
2. 1 जनवरी 2015
3. 10 जनवरी 2015
4. 12 जनवरी 2015

Options :

485584134965. 1
485584134966. 2
485584134967. 3
485584134968. 4

Question Number : 428 Question Id : 48558433743 Question Type : MCQ Option Shuffling : No Is Question Mandatory : No Calculator : None Response Time : N.A Think Time : N.A Minimum Instruction Time : 0

Correct Marks : 5 Wrong Marks : 1

Question Key Details :

Key	Value
Comprehension	MCQ

Given below are two statements:

Statements I: The second five year plan stressed on heavy Industries.

Statements II: It declared that socialist pattern of society was its goal.

In the light of the above statements, choose the most appropriate answer from the options given below:

1. Both statement I and statement II are correct
2. Both statement I and statement II are incorrect
3. Statement I is correct but statement II is incorrect
4. Statement I is incorrect but statement II is correct

Options :

485584134969. 1
485584134970. 2
485584134971. 3
485584134972. 4

Question Number : 428 Question Id : 48558433743 Question Type : MCQ Option Shuffling : No Is Question Mandatory : No Calculator : None Response Time : N.A Think Time : N.A Minimum Instruction Time : 0

Correct Marks : 5 Wrong Marks : 1

Question Key Details :

Key	Value
Comprehension	MCQ

नीचे दो कथन दिए गए हैं:

कथन I: द्वितीय पंचवर्षीय योजना ने भारी उद्योगों पर जोर दिया।

कथन II: इसने घोषणा की कि समाज की समाजवादी संरचना इसका लक्ष्य था।

उपरोक्त कथन के आलोक में, नीचे दिए गए विकल्पों में से सबसे उपयुक्त उत्तर का चयन कीजिए

1. कथन I और II दोनों सही हैं
2. कथन I और II दोनों गलत हैं
3. कथन I सही है, लेकिन कथन II गलत है
4. कथन I गलत है, लेकिन कथन II सही है

Options :

485584134969. 1

485584134970. 2

485584134971. 3

485584134972. 4

Question Number : 429 Question Id : 48558433744 Question Type : MCQ Option Shuffling : No Is Question Mandatory : No Calculator : None Response Time : N.A Think Time : N.A Minimum Instruction Time : 0

Correct Marks : 5 Wrong Marks : 1

Question Key Details :

Key	Value
Comprehension	MCQ

Choose the name of the author of 'Economy of Permanence'

1. K. N. Raj
2. P. C. Mahalannobis
3. J. C. Kumarappa
4. Karuna Banergee

Options :

485584134973. 1

485584134974. 2

485584134975. 3

485584134976. 4

Question Number : 429 Question Id : 48558433744 Question Type : MCQ Option Shuffling : No Is Question Mandatory : No Calculator : None Response Time : N.A Think Time : N.A Minimum Instruction Time : 0

Correct Marks : 5 Wrong Marks : 1

Question Key Details :

Key	Value
Comprehension	MCQ

'इकॉनमी ऑफ परमानेंस' के लेखक थे।

1. के. एन. राज
2. पी. सी. महालनोबिस
3. जे. सी. कुमारप्पा
4. करुणा बैनर्जी

Options :

485584134973. 1
485584134974. 2
485584134975. 3
485584134976. 4

Question Number : 430 Question Id : 48558433745 Question Type : MCQ Option Shuffling : No Is Question Mandatory : No Calculator : None Response Time : N.A Think Time : N.A Minimum Instruction Time : 0

Correct Marks : 5 Wrong Marks : 1

Question Key Details :

Key	Value
Comprehension	MCQ

In which year Britain attacked Egypt over the Sues Canal issue

1. 1955
2. 1956
3. 1957
4. 1958

Options :

485584134977. 1
485584134978. 2
485584134979. 3
485584134980. 4

Question Number : 430 Question Id : 48558433745 Question Type : MCQ Option Shuffling : No Is Question Mandatory : No Calculator : None Response Time : N.A Think Time : N.A Minimum Instruction Time : 0

Correct Marks : 5 Wrong Marks : 1

Question Key Details :

Key	Value
Comprehension	MCQ

ब्रिटेन ने स्वेज नहर के मामले को लेकर मिश्र पर किस वर्ष में आक्रमण किया?

1. 1955

2. 1956

3. 1957

4. 1958

Options :

485584134977. 1

485584134978. 2

485584134979. 3

485584134980. 4

Question Number : 431 Question Id : 48558433746 Question Type : MCQ Option Shuffling : No Is Question Mandatory : No Calculator : None Response Time : N.A Think Time : N.A Minimum Instruction Time : 0

Correct Marks : 5 Wrong Marks : 1

Question Key Details :

Key	Value
Comprehension	MCQ

In which Article of Indian constitution lays down some Directive Principles of state Policy on Promotion of International peace and security

1. Article 51

2. Article 50

3. Article 49

4. Article 48

Options :

485584134981. 1

485584134982. 2

485584134983. 3

485584134984. 4

Question Number : 431 Question Id : 48558433746 Question Type : MCQ Option Shuffling : No Is Question Mandatory : No Calculator : None Response Time : N.A Think Time : N.A Minimum Instruction Time : 0

Correct Marks : 5 Wrong Marks : 1

Question Key Details :

Key	Value
Comprehension	MCQ

भारतीय संविधान के किस अनुच्छेद में अंतर्राष्ट्रीय शांति और सुरक्षा के बढ़ावे के लिए राज्य के नीति निर्देशक सिद्धांत की बात की गई है?

1. अनुच्छेद 51
2. अनुच्छेद 50
3. अनुच्छेद 49
4. अनुच्छेद 48

Options :

485584134981. 1
485584134982. 2
485584134983. 3
485584134984. 4

Question Number : 432 Question Id : 48558433747 Question Type : MCQ Option Shuffling : No Is Question Mandatory : No Calculator : None Response Time : N.A Think Time : N.A Minimum Instruction Time : 0

Correct Marks : 5 Wrong Marks : 1

Question Key Details :

Key	Value
Comprehension	MCQ

The first summit of NAM was held in Belgrade in _____

1. January 1961
2. March 1961
3. May 1961
4. September 1961

Options :

485584134985. 1
485584134986. 2
485584134987. 3
485584134988. 4

Question Number : 432 Question Id : 48558433747 Question Type : MCQ Option Shuffling : No Is Question Mandatory : No Calculator : None Response Time : N.A Think Time : N.A Minimum Instruction Time : 0

Correct Marks : 5 Wrong Marks : 1

Question Key Details :

Key	Value
Comprehension	MCQ

गुटनिरपेक्ष आंदोलन का पहला सम्मेलन बेलग्रेड में _____ को हुआ।

1. जनवरी 1961
2. मार्च 1961
3. मई 1961
4. सितंबर 1961

Options :

485584134985. 1
485584134986. 2
485584134987. 3
485584134988. 4

Question Number : 433 Question Id : 48558433748 Question Type : MCQ Option Shuffling : No Is Question Mandatory : No Calculator : None Response Time : N.A Think Time : N.A Minimum Instruction Time : 0

Correct Marks : 5 Wrong Marks : 1

Question Key Details :

Key	Value
Comprehension	MCQ

Frankly-----my impression (of Zhou Enlai) was very favourable _____ the Chinese premier is, I believe a good type of man and trust worthy

Who wrote there words in letter in December 1956

1. C Rajgopalachari
2. Mahatma Gandhi
3. Sardar Patel
4. Jawahar Lal Nehru

Options :

485584134989. 1
485584134990. 2
485584134991. 3
485584134992. 4

Question Number : 433 Question Id : 48558433748 Question Type : MCQ Option Shuffling : No Is Question Mandatory : No Calculator : None Response Time : N.A Think Time : N.A Minimum Instruction Time : 0

Correct Marks : 5 Wrong Marks : 1

Question Key Details :

Key	Value
Comprehension	MCQ

"सच कहूँ तो उनको (चाऊ एन लाई) लेकर मन में बड़े अच्छे भाव जगे.... मेरा ख्याल है कि चीन के शासनाध्यक्ष अच्छे इंसान हैं और अपार भरोसा किया जा सकता है।"

दिसंबर 1956 में एक पत्र में यह बात किसने लिखी?

1. सी. राजगोपालाचारी
2. महात्मा गांधी
3. सरदार पटेल
4. जवाहरलाल नेहरू

Options :

485584134989. 1
485584134990. 2
485584134991. 3
485584134992. 4

Question Number : 434 Question Id : 48558433749 Question Type : MCQ Option Shuffling : No Is Question Mandatory : No Calculator : None Response Time : N.A Think Time : N.A Minimum Instruction Time : 0

Correct Marks : 5 Wrong Marks : 1

Question Key Details :

Key	Value
Comprehension	MCQ

The first nuclear explosion undertaken by India in which year

1. 1973
2. 1974
3. 1975
4. 1976

Options :

485584134993. 1
485584134994. 2
485584134995. 3
485584134996. 4

Question Number : 434 Question Id : 48558433749 Question Type : MCQ Option Shuffling : No Is Question Mandatory : No Calculator : None Response Time : N.A Think Time : N.A Minimum Instruction Time : 0

Correct Marks : 5 Wrong Marks : 1

Question Key Details :

Key	Value
Comprehension	MCQ

भारत द्वारा किस वर्ष पहला परमाणु विस्फोट किया गया?

1. 1973
2. 1974
3. 1975
4. 1976

Options :

485584134993. 1
485584134994. 2
485584134995. 3
485584134996. 4

Question Number : 435 Question Id : 48558433750 Question Type : MCQ Option Shuffling : No Is Question Mandatory : No Calculator : None Response Time : N.A Think Time : N.A Minimum Instruction Time : 0

Correct Marks : 5 Wrong Marks : 1

Question Key Details :

Key	Value
Comprehension	MCQ

Match List I with List II

LIST I		LIST II	
A.	The goal of India's Foreign Policy in the period 1950-1964	I.	Tibetan spiritual leader who crossed over to India
B.	Panchsheel	II.	Preservation of territorial integrity sovereignty and economic development
C.	Bandung Conference	III.	Five principles of peaceful co-existence
D.	Dalai Lama	IV.	Led to the establishment of NAM

Choose the correct answer from the options given below:

1. A-I, B-II, C-III, D-IV
2. A-II, B-III, C-IV, D-I
3. A-II, B-IV, C-III, D-I
4. A-I, B-III, C-II, D-IV

Options :

485584134997. 1
485584134998. 2
485584134999. 3
485584135000. 4

Question Number : 435 Question Id : 48558433750 Question Type : MCQ Option Shuffling : No Is Question Mandatory : No Calculator : None Response Time : N.A Think Time : N.A Minimum Instruction Time : 0

Correct Marks : 5 Wrong Marks : 1

Question Key Details :

Key	Value
Comprehension	MCQ

सूची I का सूची II से मिलान कीजिए

सूची I		सूची II	
A.	1950- 64 के दौरान भारत की विदेश नीति का लक्ष्य	I.	तिब्बत के धार्मिक नेता जो सीमा पार करके भारत चले आए
B.	पंचशील	II.	क्षेत्रीय अखंडता और संप्रभुता की रक्षा तथा आर्थिक विकास
C.	बांडुंग सम्मेलन	III.	शांतिपूर्ण सहअस्तित्व के पाँच सिद्धांत
D.	दलाई लामा	IV.	इसका परिणाम गुटनिरपेक्ष आंदोलन में हुआ

निम्नलिखित विकल्पों में से सही उत्तर का चयन कीजिए :

1. A-I, B-II, C-III, D-IV
2. A-II, B-III, C-IV, D-I
3. A-II, B-IV, C-III, D-I
4. A-I, B-III, C-II, D-IV

Options :

485584134997. 1
485584134998. 2
485584134999. 3
485584135000. 4

Question Number : 436 Question Id : 48558433751 Question Type : MCQ Option Shuffling : No Is Question Mandatory : No Calculator : None Response Time : N.A Think Time : N.A Minimum Instruction Time : 0

Correct Marks : 5 Wrong Marks : 1

Question Key Details :

Key	Value
Comprehension	MCQ

Who coined the famous slogan Jai Jawan Jai Kisan

1. Jawaharlal Nehru
2. Lal Bhadur Shastri
3. Lal Bahadur Lal
4. Mahatma Gandhi

Options :

485584135001. 1
485584135002. 2
485584135003. 3
485584135004. 4

Question Number : 436 Question Id : 48558433751 Question Type : MCQ Option Shuffling : No Is Question Mandatory : No Calculator : None Response Time : N.A Think Time : N.A Minimum Instruction Time : 0

Correct Marks : 5 Wrong Marks : 1

Question Key Details :

Key	Value
Comprehension	MCQ

'जय जवान, जय किसान' का नारा किसने दिया?

1. जवाहर लाल नेहरू
2. लाल बहादुर शास्त्री
3. लाल बहादुर लाल
4. महात्मा गांधी

Options :

485584135001. 1
485584135002. 2
485584135003. 3
485584135004. 4

Question Number : 437 Question Id : 48558433752 Question Type : MCQ Option Shuffling : No Is Question Mandatory : No Calculator : None Response Time : N.A Think Time : N.A Minimum Instruction Time : 0

Correct Marks : 5 Wrong Marks : 1

Question Key Details :

Key	Value
Comprehension	MCQ

Who introduced mid-day meal scheme for School Children.

1. K. Kamraj
2. K.N. Raj
3. Vinoba Bhave
4. K. Nizilingappa

Options :

485584135005. 1
485584135006. 2
485584135007. 3
485584135008. 4

Question Number : 437 Question Id : 48558433752 Question Type : MCQ Option Shuffling : No Is Question Mandatory : No Calculator : None Response Time : N.A Think Time : N.A Minimum Instruction Time : 0

Correct Marks : 5 Wrong Marks : 1

Question Key Details :

Key	Value
Comprehension	MCQ

स्कूली बच्चों के लिए 'दोपहर का भोजन' योजना की शुरुआत किसने की?

1. के. कामराज
2. के. एन. राज
3. विनोबा भावे
4. के. निजीलिंगप्पा

Options :

485584135005. 1
485584135006. 2
485584135007. 3
485584135008. 4

Question Number : 438 Question Id : 48558433753 Question Type : MCQ Option Shuffling : No Is Question Mandatory : No Calculator : None Response Time : N.A Think Time : N.A Minimum Instruction Time : 0

Correct Marks : 5 Wrong Marks : 1

Question Key Details :

Key	Value
Comprehension	MCQ

Choose the name of the President of India from 1969 to 1974

1. Neelam Sanjeeva Reddy
2. V. V. Giri
3. Zakir Hussain
4. Fakhruddin Ali Ahmed

Options :

485584135009. 1
485584135010. 2
485584135011. 3
485584135012. 4

Question Number : 438 Question Id : 48558433753 Question Type : MCQ Option Shuffling : No Is Question Mandatory : No Calculator : None Response Time : N.A Think Time : N.A Minimum Instruction Time : 0

Correct Marks : 5 Wrong Marks : 1

Question Key Details :

Key	Value
Comprehension	MCQ

1969 से 1974 के दौरान भारत के राष्ट्रपति थे-

1. नीलम संजीव रेड्डी
2. वी.वी. गिरी
3. जाकिर हुसैन
4. फखरुद्दीन अली अहमद

Options :

485584135009. 1
485584135010. 2
485584135011. 3
485584135012. 4

Question Number : 439 Question Id : 48558433754 Question Type : MCQ Option Shuffling : No Is Question Mandatory : No Calculator : None Response Time : N.A Think Time : N.A Minimum Instruction Time : 0

Correct Marks : 5 Wrong Marks : 1

Question Key Details :

Key	Value
Comprehension	MCQ

Who formed DMK as a Political Party in 1949

1. Ram Manohar Lohia
2. C. Natrajan Ananaduri
3. Nevile Maxwell
4. Karpoori Thakur

Options :

485584135013. 1
485584135014. 2
485584135015. 3
485584135016. 4

Question Number : 439 Question Id : 48558433754 Question Type : MCQ Option Shuffling : No Is Question Mandatory : No Calculator : None Response Time : N.A Think Time : N.A Minimum Instruction Time : 0

Correct Marks : 5 Wrong Marks : 1

Question Key Details :

Key	Value
Comprehension	MCQ

1949 में डी.एम.के.(DMK) का बतौर राजनीतिक जल गठन किसने किया ?

1. राम मनोहर लोहिया
2. सी.नटराजन अन्नादुरई
3. नेबिल मैक्सवेल
4. कर्पूरी ठाकुर

Options :

485584135013. 1
485584135014. 2
485584135015. 3
485584135016. 4

Question Number : 440 Question Id : 48558433755 Question Type : MCQ Option Shuffling : No Is Question Mandatory : No Calculator : None Response Time : N.A Think Time : N.A Minimum Instruction Time : 0

Correct Marks : 5 Wrong Marks : 1

Question Key Details :

Key	Value
Comprehension	MCQ

'Sampoorna Kranti ab nara hai, bhavi itihias hamara hai'

Above slogan is associated with which movement

1. Anti-Arrack-Movement
2. Bihar Movement
3. Gujrat Movement
4. Chipko Movement

Options :

485584135017. 1
485584135018. 2
485584135019. 3
485584135020. 4

Question Number : 440 Question Id : 48558433755 Question Type : MCQ Option Shuffling : No Is Question Mandatory : No Calculator : None Response Time : N.A Think Time : N.A Minimum Instruction Time : 0

Correct Marks : 5 Wrong Marks : 1

Question Key Details :

Key	Value
Comprehension	MCQ

सम्पूर्ण क्रांति अब नारा है, भावी इतिहास हमारा है'उपरोक्त नारा किस आन्दोलन से सम्बंधित है?

1. (ताड़ी) अराक-विरोधी आंदोलन
2. बिहार आंदोलन
3. गुजरात आंदोलन
4. चिपको आंदोलन

Options :

485584135017. 1
485584135018. 2
485584135019. 3
485584135020. 4

Question Number : 441 Question Id : 48558433756 Question Type : MCQ Option Shuffling : No Is Question Mandatory : No Calculator : None Response Time : N.A Think Time : N.A Minimum Instruction Time : 0

Correct Marks : 5 Wrong Marks : 1

Question Key Details :

Key	Value
Comprehension	MCQ

In May 1977, The Janta Party government appointed which commission, to inquire into several aspects of allegation of abuse of authority.

1. Sheng Commission
2. Shai Commission
3. Shah Commission
4. J.P Commission

Options :

485584135021. 1
485584135022. 2
485584135023. 3
485584135024. 4

Question Number : 441 Question Id : 48558433756 Question Type : MCQ Option Shuffling : No Is Question Mandatory : No Calculator : None Response Time : N.A Think Time : N.A Minimum Instruction Time : 0

Correct Marks : 5 Wrong Marks : 1

Question Key Details :

Key	Value
Comprehension	MCQ

1977 की मई में जनता पार्टी की सरकार ने सत्ता के दुरुपयोग के विभिन्न आरोपों के विविध पहलुओं की जांच के लिए आयोग का गठन किया ?

1. शेंग आयोग
2. शार्ई आयोग
3. शाह आयोग
4. जे .पी. आयोग

Options :

485584135021. 1
485584135022. 2
485584135023. 3
485584135024. 4

Question Number : 442 Question Id : 48558433757 Question Type : MCQ Option Shuffling : No Is Question Mandatory : No Calculator : None Response Time : N.A Think Time : N.A Minimum Instruction Time : 0

Correct Marks : 5 Wrong Marks : 1

Question Key Details :

Key	Value
Comprehension	MCQ

Who were the Deputy Prime Minister of India from 1967 to 1969

1. Devi Lal
2. Charan Singh
3. Jagjivan Ram
4. Morarji Dessai

Options :

485584135025. 1
485584135026. 2
485584135027. 3
485584135028. 4

Question Number : 442 Question Id : 48558433757 Question Type : MCQ Option Shuffling : No Is Question Mandatory : No Calculator : None Response Time : N.A Think Time : N.A Minimum Instruction Time : 0

Correct Marks : 5 Wrong Marks : 1

Question Key Details :

Key	Value
Comprehension	MCQ

1967 से 1969 तक भारत के उप-प्रधानमंत्री कौन थे ?

1. देवी लाल
2. चरण सिंह
3. जगजीवन राम
4. मोरारजी देसाई

Options :

485584135025. 1
485584135026. 2
485584135027. 3
485584135028. 4

Question Number : 443 Question Id : 48558433758 Question Type : MCQ Option Shuffling : No Is Question Mandatory : No Calculator : None Response Time : N.A Think Time : N.A Minimum Instruction Time : 0

Correct Marks : 5 Wrong Marks : 1

Question Key Details :

Key	Value
Comprehension	MCQ

Dalit Panthers, a militant organisation of Dalit Youth, was formed in which state in 1972

1. Kerala
2. Maharashtra
3. Bihar
4. West Bengal

Options :

485584135029. 1
485584135030. 2
485584135031. 3
485584135032. 4

Question Number : 443 Question Id : 48558433758 Question Type : MCQ Option Shuffling : No Is Question Mandatory : No Calculator : None Response Time : N.A Think Time : N.A Minimum Instruction Time : 0

Correct Marks : 5 Wrong Marks : 1

Question Key Details :

Key	Value
Comprehension	MCQ

दलित युवाओं का एक संगठन ,दलित पैथर्स का गठन 1972 में किस राज्य में हुआ ?

1. केरल
2. महाराष्ट्र
3. बिहार
4. पश्चिम बंगाल

Options :

485584135029. 1
485584135030. 2
485584135031. 3
485584135032. 4

Question Number : 444 Question Id : 48558433759 Question Type : MCQ Option Shuffling : No Is Question Mandatory : No Calculator : None Response Time : N.A Think Time : N.A Minimum Instruction Time : 0

Correct Marks : 5 Wrong Marks : 1

Question Key Details :

Key	Value
Comprehension	MCQ

"Our blood was spilled for this glorious city and what we got was the right to eat stories. Now, now we must explode the building that kisses the sky." Who is the author of above poem.

1. Jayant Karve
2. Eleavor Zelliot
3. Namdeo Dahasal
4. Raj Kumari Amrit Kaur

Options :

485584135033. 1
485584135034. 2
485584135035. 3
485584135036. 4

Question Number : 444 Question Id : 48558433759 Question Type : MCQ Option Shuffling : No Is Question Mandatory : No Calculator : None Response Time : N.A Think Time : N.A Minimum Instruction Time : 0

Correct Marks : 5 Wrong Marks : 1

Question Key Details :

Key	Value
Comprehension	MCQ

इस अनुपम नगर के लिए बिखरा था हमारा लहू और बदले में यह मिला खाने को पत्थर। लेकिन अब ,हमे ढहानी ही होगी-
यह ईमारत जो चूम रही आकाश को

उपरोक्त कविता का कवि कौन है ?

1. जयंत कर्णे
2. इलियानोर जेलियट
3. नामदेव दहसाल
4. राज कुमारी अमृत कौर

Options :

485584135033. 1
485584135034. 2
485584135035. 3
485584135036. 4

**Question Number : 445 Question Id : 48558433760 Question Type : MCQ Option Shuffling : No Is Question Mandatory :
No Calculator : None Response Time : N.A Think Time : N.A Minimum Instruction Time : 0**

Correct Marks : 5 Wrong Marks : 1

Question Key Details :

Key	Value
Comprehension	MCQ

In which year RTI bill was tabled and received presidential assent.

1. June 2005
2. July 2006
3. June 2007
4. July 2008

Options :

485584135037. 1
485584135038. 2
485584135039. 3
485584135040. 4

**Question Number : 445 Question Id : 48558433760 Question Type : MCQ Option Shuffling : No Is Question Mandatory :
No Calculator : None Response Time : N.A Think Time : N.A Minimum Instruction Time : 0**

Correct Marks : 5 Wrong Marks : 1

Question Key Details :

Key	Value
Comprehension	MCQ

किस वर्ष में सूचना का अधिकार विधेयक को सदन में रखा गया और इसे राष्ट्रपति की मंजूरी हासिल हुई।

1. जून 2005
2. जुलाई 2006
3. जून 2007
4. जुलाई 2008

Options :

485584135037. 1
485584135038. 2
485584135039. 3
485584135040. 4

Question Number : 446 Question Id : 48558433761 Question Type : MCQ Option Shuffling : No Is Question Mandatory : No Calculator : None Response Time : N.A Think Time : N.A Minimum Instruction Time : 0

Correct Marks : 5 Wrong Marks : 1

Question Key Details :

Key	Value
Comprehension	MCQ

Given below are two statements: one is labelled as **Assertion A** and the other is labelled as **Reason R**

Assertion A : Asom Gana Sangram Parishad organised themselves as a regional political party called Asom Gana Parishad

Reason R : It came to power in 1985 with the promise of resolving the foreign national problem as well as to build a 'Golden Assam'

In the light of the above statements, choose the **correct** answer from the options given below:

1. Both **A** and **R** are true and **R** is the correct explanation of **A**
2. Both **A** and **R** are true and **R** is **NOT** the correct explanation of **A**
3. **A** is true but **R** is false
4. **A** is false but **R** is true

Options :

485584135041. 1
485584135042. 2
485584135043. 3
485584135044. 4

Question Number : 446 Question Id : 48558433761 Question Type : MCQ Option Shuffling : No Is Question Mandatory : No Calculator : None Response Time : N.A Think Time : N.A Minimum Instruction Time : 0

Correct Marks : 5 Wrong Marks : 1

Question Key Details :

Key	Value
Comprehension	MCQ

नीचे दो कथन दिए हैं: एक **अभिकथन (Assertion A)** के रूप में लिखित हैं तो दूसरा उसके **कारण (Reason R)** के रूप में:

अभिकथन A : असम गण संग्राम परिषद ने साथ मिलकर अपने को एक क्षेत्रीय राजनीतिक पार्टी असम गण परिषद के रूप में संगठित किया।

कारण R : यह 1985 में इस वायदे के साथ सत्ता में आई थी कि विदेशी लोगों की समस्या को सुलझा लिया जाएगा और एक 'स्वर्णिम असम' का निर्माण किया जाएगा।

उपरोक्त कथन के आलोक में, नीचे दिए विकल्पों में से **सबसे उपयुक्त उत्तर** का चयन कीजिए

1. **A** और **R** दोनों सही हैं और **R, A** की सही व्याख्या हैं
2. **A** और **R** दोनों सही हैं, लेकिन **R, A** की सही व्याख्या नहीं हैं
3. **A** सही है लेकिन **R** सही नहीं है
4. **A** सही नहीं हैं लेकिन **R** सही है

Options :

485584135041. 1
485584135042. 2
485584135043. 3
485584135044. 4

Question Number : 447 Question Id : 48558433762 Question Type : MCQ Option Shuffling : No Is Question Mandatory : No Calculator : None Response Time : N.A Think Time : N.A Minimum Instruction Time : 0

Correct Marks : 5 Wrong Marks : 1

Question Key Details :

Key	Value
Comprehension	MCQ

The bomb dropped by the US on Hiroshima city was code named

1. Fat Man
2. Little Boy
3. Fat Woman
4. Little Girl

Options :

485584135045. 1
485584135046. 2
485584135047. 3
485584135048. 4

Question Number : 447 Question Id : 48558433762 Question Type : MCQ Option Shuffling : No Is Question Mandatory : No Calculator : None Response Time : N.A Think Time : N.A Minimum Instruction Time : 0

Correct Marks : 5 Wrong Marks : 1

Question Key Details :

Key	Value
Comprehension	MCQ

अमरीका द्वारा हिरोशिमा पर गिराए गए बम का गुप्तनाम था?

1. फेटमैन
2. लिटिल ब्वॉय
3. फेट वुमन
4. लिटिल गर्ल

Options :

485584135045. 1
485584135046. 2
485584135047. 3
485584135048. 4

Question Number : 448 Question Id : 48558433763 Question Type : MCQ Option Shuffling : No Is Question Mandatory : No Calculator : None Response Time : N.A Think Time : N.A Minimum Instruction Time : 0

Correct Marks : 5 Wrong Marks : 1

Question Key Details :

Key	Value
Comprehension	MCQ

Name the leader who was the first Prime Minister of Ghana and founder figure of NAM.

1. Josip Broz
2. Kwame Nkrumah
3. Kwame Skrumah
4. Gamal Abdel

Options :

485584135049. 1
485584135050. 2
485584135051. 3
485584135052. 4

Question Number : 448 Question Id : 48558433763 Question Type : MCQ Option Shuffling : No Is Question Mandatory : No Calculator : None Response Time : N.A Think Time : N.A Minimum Instruction Time : 0

Correct Marks : 5 Wrong Marks : 1

Question Key Details :

Key	Value
Comprehension	MCQ

उस नेता का नाम बताएं जो घाना का पहला प्रधानमंत्री था और गुटनिरपेक्ष आंदोलन का संस्थापक था।

1. जोसेफ ब्रॉज़
2. वामे एनकूमा
3. वामे एसकूमा
4. गमाल अब्दुल

Options :

485584135049. 1
485584135050. 2
485584135051. 3
485584135052. 4

Question Number : 449 Question Id : 48558433764 Question Type : MCQ Option Shuffling : No Is Question Mandatory : No Calculator : None Response Time : N.A Think Time : N.A Minimum Instruction Time : 0

Correct Marks : 5 Wrong Marks : 1

Question Key Details :

Key	Value
Comprehension	MCQ

Name the founder of Bolshevnik Communist Party.

1. Joseph Stalin
2. Vladimir Lenin
3. Boris Yeltsin
4. Leonid Brezhnev

Options :

485584135053. 1
485584135054. 2
485584135055. 3
485584135056. 4

Question Number : 449 Question Id : 48558433764 Question Type : MCQ Option Shuffling : No Is Question Mandatory : No Calculator : None Response Time : N.A Think Time : N.A Minimum Instruction Time : 0

Correct Marks : 5 Wrong Marks : 1

Question Key Details :

Key	Value
Comprehension	MCQ

बोल्शेविक कम्युनिस्ट पार्टी के संस्थापक का नाम बताएं -

1. जोसेफ स्टालिन
2. व्लादिमीर लेनिन
3. बोरिस येल्तसिन
4. लिओनिड ब्रेझ्नेव

Options :

485584135053. 1
485584135054. 2
485584135055. 3
485584135056. 4

Question Number : 450 Question Id : 48558433765 Question Type : MCQ Option Shuffling : No Is Question Mandatory : No Calculator : None Response Time : N.A Think Time : N.A Minimum Instruction Time : 0

Correct Marks : 5 Wrong Marks : 1

Question Key Details :

Key	Value
Comprehension	MCQ

Who was the first elected President of Russia?

1. Mikhail Gorbachev
2. Fidel Castro
3. Boris Yeltsin
4. Joseph Stalin

Options :

485584135057. 1
485584135058. 2
485584135059. 3
485584135060. 4

Question Number : 450 Question Id : 48558433765 Question Type : MCQ Option Shuffling : No Is Question Mandatory : No Calculator : None Response Time : N.A Think Time : N.A Minimum Instruction Time : 0

Correct Marks : 5 Wrong Marks : 1

Question Key Details :

Key	Value
Comprehension	MCQ

रूस का पहला चुना हुआ राष्ट्रपति कौन था?

1. मिखाइल गोर्बाचेव
2. फिदेल कास्त्रो
3. बोरिस येल्तसिन
4. जोज़ेफ स्टालिन

Options :

485584135057. 1
485584135058. 2
485584135059. 3
485584135060. 4

Question Number : 451 Question Id : 48558433766 Question Type : MCQ Option Shuffling : No Is Question Mandatory : No Calculator : None Response Time : N.A Think Time : N.A Minimum Instruction Time : 0

Correct Marks : 5 Wrong Marks : 1

Question Key Details :

Key	Value
Comprehension	MCQ

- A. On 19 March 2003, the US launched its invasion of Iraq.
B. US has lost over 3000 military personnel in the war
C. The ostensible purpose of the invasion was to destroy Iraq from developing weapons at mass destruction
D. More than forty other countries joined in the US led coalition of the willing after the UN refused to give its mandate to the invasion

Choose the most appropriate answer from the options given below:

1. A, C, D only
2. A, B, C only
3. A, B, D only
4. C, D, A only

Options :

485584135061. 1
485584135062. 2
485584135063. 3
485584135064. 4

Question Number : 451 Question Id : 48558433766 Question Type : MCQ Option Shuffling : No Is Question Mandatory : No Calculator : None Response Time : N.A Think Time : N.A Minimum Instruction Time : 0

Correct Marks : 5 Wrong Marks : 1

Question Key Details :

Key	Value
Comprehension	MCQ

- A. 19 मार्च 2003 को अमरीका ने इराक पर सैन्य हमला किया
 B. अमरीका के 3000 से अधिक सैनिक इस युद्ध में मारे गए
 C. इराक पर हमला करने की दिखावे की वजह थी सामूहिक संहार के हथियारों को नष्ट करना
 D. संयुक्त राष्ट्रसंघ द्वारा इस हमले की अनुमति नहीं देने के बाद, अमरीकी अगुवाई वाले 'कॉअलिशन ऑफ विलिंग्स (आकांक्षियों के महाजोर) में 40 से ज्यादा देश शामिल हुए।

नीचे दिए गए विकल्पों में से सही उत्तर दीजिए :

1. केवल A, C, D
2. केवल A, B, C
3. केवल A, B, D
4. केवल C, D, A

Options :

485584135061. 1
 485584135062. 2
 485584135063. 3
 485584135064. 4

Question Number : 452 Question Id : 48558433767 Question Type : MCQ Option Shuffling : No Is Question Mandatory : No Calculator : None Response Time : N.A Think Time : N.A Minimum Instruction Time : 0

Correct Marks : 5 Wrong Marks : 1

Question Key Details :

Key	Value
Comprehension	MCQ

In which year the Lisbon Treaty came in to force?

1. 2007
2. 2008
3. 2009
4. 2010

Options :

485584135065. 1
 485584135066. 2
 485584135067. 3
 485584135068. 4

Question Number : 452 Question Id : 48558433767 Question Type : MCQ Option Shuffling : No Is Question Mandatory : No Calculator : None Response Time : N.A Think Time : N.A Minimum Instruction Time : 0

Correct Marks : 5 Wrong Marks : 1

Question Key Details :

Key	Value
Comprehension	MCQ

लिस्बन संधि किस वर्ष में लागू हुई?

1. 2007

2. 2008

3. 2009

4. 2010

Options :

485584135065. 1

485584135066. 2

485584135067. 3

485584135068. 4

Question Number : 453 Question Id : 48558433768 Question Type : MCQ Option Shuffling : No Is Question Mandatory : No Calculator : None Response Time : N.A Think Time : N.A Minimum Instruction Time : 0

Correct Marks : 5 Wrong Marks : 1

Question Key Details :

Key	Value
Comprehension	MCQ

Bangladesh was a part of Pakistan from _____

1. 1947 to 1971

2. 1947 to 1969

3. 1948 to 1949

4. 1948 to 1969

Options :

485584135069. 1

485584135070. 2

485584135071. 3

485584135072. 4

Question Number : 453 Question Id : 48558433768 Question Type : MCQ Option Shuffling : No Is Question Mandatory : No Calculator : None Response Time : N.A Think Time : N.A Minimum Instruction Time : 0

Correct Marks : 5 Wrong Marks : 1

Question Key Details :

Key	Value
Comprehension	MCQ

बांग्लादेश कब से कब तक पाकिस्तान का हिस्सा था?

1. 1947 से 1971
2. 1947 से 1969
3. 1948 से 1949
4. 1948 से 1969

Options :

485584135069. 1
485584135070. 2
485584135071. 3
485584135072. 4

Question Number : 454 Question Id : 48558433769 Question Type : MCQ Option Shuffling : No Is Question Mandatory : No Calculator : None Response Time : N.A Think Time : N.A Minimum Instruction Time : 0

Correct Marks : 5 Wrong Marks : 1

Question Key Details :

Key	Value
Comprehension	MCQ

In 2008, in which state the monarchy was abolished and emerged as a democratic republic?

1. Bhutan
2. Nepal
3. Bangladesh
4. Maldives

Options :

485584135073. 1
485584135074. 2
485584135075. 3
485584135076. 4

Question Number : 454 Question Id : 48558433769 Question Type : MCQ Option Shuffling : No Is Question Mandatory : No Calculator : None Response Time : N.A Think Time : N.A Minimum Instruction Time : 0

Correct Marks : 5 Wrong Marks : 1

Question Key Details :

Key	Value
Comprehension	MCQ

2008 में किस देश में राजतन्त्र खत्म हुआ और लोकतंत्रिक गणराज्य के रूप में उभरा?

1. भूटान
2. नेपाल
3. बांग्लादेश
4. मालदीव

Options :

485584135073. 1
485584135074. 2
485584135075. 3
485584135076. 4

Question Number : 455 Question Id : 48558433770 Question Type : MCQ Option Shuffling : No Is Question Mandatory : No Calculator : None Response Time : N.A Think Time : N.A Minimum Instruction Time : 0

Correct Marks : 5 Wrong Marks : 1

Question Key Details :

Key	Value
Comprehension	MCQ

Name the 9th Secretary-General of UN.

1. Antonio Guterres
2. Ban Ki Moon
3. Kofi A. Annan
4. U. Thart

Options :

485584135077. 1
485584135078. 2
485584135079. 3
485584135080. 4

Question Number : 455 Question Id : 48558433770 Question Type : MCQ Option Shuffling : No Is Question Mandatory : No Calculator : None Response Time : N.A Think Time : N.A Minimum Instruction Time : 0

Correct Marks : 5 Wrong Marks : 1

Question Key Details :

Key	Value
Comprehension	MCQ

संयुक्त राष्ट्रसंघ के नौवें महासचिव का नाम है -

1. एंटोनियो गुटेरेस
2. बान की मून
3. कोफी अन्नान
4. यू थांट

Options :

485584135077. 1
485584135078. 2
485584135079. 3
485584135080. 4

Question Number : 456 Question Id : 48558433771 Question Type : MCQ Option Shuffling : No Is Question Mandatory : No Calculator : None Response Time : N.A Think Time : N.A Minimum Instruction Time : 0

Correct Marks : 5 Wrong Marks : 1

Question Key Details :

Key	Value
Comprehension	MCQ

The world trade organisation sets the rules for...

1. Global Economy
2. Global Trade
3. Global Future
4. Global Issues

Options :

485584135081. 1
485584135082. 2
485584135083. 3
485584135084. 4

Question Number : 456 Question Id : 48558433771 Question Type : MCQ Option Shuffling : No Is Question Mandatory : No Calculator : None Response Time : N.A Think Time : N.A Minimum Instruction Time : 0

Correct Marks : 5 Wrong Marks : 1

Question Key Details :

Key	Value
Comprehension	MCQ

विश्व व्यापार संगठन - के नियमों को तय करता है।

1. वैश्विक अर्थव्यवस्था
2. वैश्विक व्यापार
3. वैश्विक भविष्य
4. वैश्विक मामले

Options :

485584135081. 1
485584135082. 2
485584135083. 3
485584135084. 4

Question Number : 457 Question Id : 48558433772 Question Type : MCQ Option Shuffling : No Is Question Mandatory : No Calculator : None Response Time : N.A Think Time : N.A Minimum Instruction Time : 0

Correct Marks : 5 Wrong Marks : 1

Question Key Details :

Key	Value
Comprehension	MCQ

The Nuclear Non Proliferation Treaty of 1968 was an _____

1. Arms control treaty
2. Arms reduction treaty
3. Arms availability treaty
4. Arms for developed country

Options :

485584135085. 1
485584135086. 2
485584135087. 3
485584135088. 4

Question Number : 457 Question Id : 48558433772 Question Type : MCQ Option Shuffling : No Is Question Mandatory : No Calculator : None Response Time : N.A Think Time : N.A Minimum Instruction Time : 0

Correct Marks : 5 Wrong Marks : 1

Question Key Details :

Key	Value
Comprehension	MCQ

1968 की परमाणु अप्रसार संधि एक _____ थी।

1. हथियार नियंत्रण संधि
2. हथियारों की संख्या कम करने की संधि
3. हथियार उपलब्धता संधि
4. विकसित देश के लिए हथियार

Options :

485584135085. 1
485584135086. 2
485584135087. 3
485584135088. 4

Question Number : 458 Question Id : 48558433773 Question Type : MCQ Option Shuffling : No Is Question Mandatory : No Calculator : None Response Time : N.A Think Time : N.A Minimum Instruction Time : 0

Correct Marks : 5 Wrong Marks : 1

Question Key Details :

Key	Value
Comprehension	MCQ

When was Earth Summit held in Rio-de-Janeiro?

1. June 1991
2. June 1992
3. June 1993
4. June 1994

Options :

485584135089. 1
485584135090. 2
485584135091. 3
485584135092. 4

Question Number : 458 Question Id : 48558433773 Question Type : MCQ Option Shuffling : No Is Question Mandatory : No Calculator : None Response Time : N.A Think Time : N.A Minimum Instruction Time : 0

Correct Marks : 5 Wrong Marks : 1

Question Key Details :

Key	Value
Comprehension	MCQ

रियो-डी-जेनेरियो में अर्थ-समित (पृथ्वी सम्मेलन) कब हुआ था?

1. जून 1991
2. जून 1992
3. जून 1993
4. जून 1994

Options :

485584135089. 1
485584135090. 2
485584135091. 3
485584135092. 4

Question Number : 459 Question Id : 48558433774 Question Type : MCQ Option Shuffling : No Is Question Mandatory : No Calculator : None Response Time : N.A Think Time : N.A Minimum Instruction Time : 0

Correct Marks : 5 Wrong Marks : 1

Question Key Details :

Key	Value
Comprehension	MCQ

India signed and ratified the 1997 Kyoto Protocol in

1. August 2001
2. August 1997
3. August 2003
4. August 2002

Options :

485584135093. 1
485584135094. 2
485584135095. 3
485584135096. 4

Question Number : 459 Question Id : 48558433774 Question Type : MCQ Option Shuffling : No Is Question Mandatory : No Calculator : None Response Time : N.A Think Time : N.A Minimum Instruction Time : 0

Correct Marks : 5 Wrong Marks : 1

Question Key Details :

Key	Value
Comprehension	MCQ

भारत ने _____ वर्ष में क्योटो प्रोटोकॉल पर हस्ताक्षर किए और इसका अनुमोदन किया।

1. अगस्त 2001
2. अगस्त 1997
3. अगस्त 2003
4. अगस्त 2002

Options :

485584135093. 1
485584135094. 2
485584135095. 3
485584135096. 4

Question Number : 460 Question Id : 48558433775 Question Type : MCQ Option Shuffling : No Is Question Mandatory : No Calculator : None Response Time : N.A Think Time : N.A Minimum Instruction Time : 0

Correct Marks : 5 Wrong Marks : 1

Question Key Details :

Key	Value
Comprehension	MCQ

The energy Conservation Act was passed in India in which year?

1. 2000
2. 2001
3. 2002
4. 2003

Options :

485584135097. 1
485584135098. 2
485584135099. 3
485584135100. 4

Question Number : 460 Question Id : 48558433775 Question Type : MCQ Option Shuffling : No Is Question Mandatory : No Calculator : None Response Time : N.A Think Time : N.A Minimum Instruction Time : 0

Correct Marks : 5 Wrong Marks : 1

Question Key Details :

Key	Value
Comprehension	MCQ

भारत में ऊर्जा संरक्षण अधिनियम कब पारित हुआ ?

1. 2000
2. 2001
3. 2002
4. 2003

Options :

485584135097. 1
485584135098. 2
485584135099. 3
485584135100. 4

Sub-Section Number : 2
Sub-Section Id : 4855842443
Question Shuffling Allowed : No
Is Section Default? : null

Question Number : 461 Question Id : 48558433776 Question Type : MCQ Option Shuffling : No Is Question Mandatory : No Calculator : None Response Time : N.A Think Time : N.A Minimum Instruction Time : 0

Correct Marks : 5 Wrong Marks : 1

Question Key Details :

Key	Value
Comprehension	Comp1

Read the paragraph given below and answer the following questions.

Shastri was the country's Prime Minister from 1964-1966. During Shastri's brief Prime Ministership, the country faced two major challenges. While India was still recovering from the economic implications of the war with China, failed monsoons, drought and serious food crisis presented a grave challenge. The country also faced a war with Pakistan in 1965. Shastri's famous slogan 'Jai Jawan Jai Kisan', symbolised the country's resolve to face both these challenges.

Shastri's Prime Ministership came to an abrupt end on 10 January 1966, when he suddenly expired in Tashkent, then in USSR and currently the capital of Uzbekistan. He was there to discuss and sign an agreement with Muhammad Ayub Khan, the then President of Pakistan, to end the war.

Lal Bahadur Shastri's Prime Ministership came to an abrupt end on _____

1. 10 January 1966
2. 10 February 1966
3. 10 January 1964
4. 10 February 1964

Options :

485584135101. 1
485584135102. 2
485584135103. 3
485584135104. 4

Question Number : 461 Question Id : 48558433776 Question Type : MCQ Option Shuffling : No Is Question Mandatory : No Calculator : None Response Time : N.A Think Time : N.A Minimum Instruction Time : 0

Correct Marks : 5 Wrong Marks : 1

Question Key Details :

Key	Value
Comprehension	Compl

नीचे दिये गद्यांश को पढ़े और दिये गये प्रश्नों के उत्तर दें-

शास्त्री 1964 से 1966 तक देश के प्रधानमंत्री रहे। इस पद पर बड़े कम दिनों तक रहे लेकिन इसी छोटी अवधि में देश ने दो बड़ी चुनौतियों का सामना किया। भारत, चीन युद्ध के कारण पैदा हुई आर्थिक कठिनाईयों से उबरने की कोशिश कर रहा था। साथ ही मानसून की असफलता से देश में सूखे की स्थिति थी। कई जगहों पर खाद्यान का गंभीर संकट आन पड़ा था। 1965 में पाकिस्तान के साथ भी युद्ध करना पड़ा। शास्त्री ने 'जय जवान-जय किसान' का नारा दिया, जिससे इन दोनों चुनौतियों से निपटने के उनके दृढ़ संकल्प का पता चलता है।

प्रधानमंत्री के पद पर शास्त्री बड़े कम दिनों तक रहे। 10 जनवरी 1966 को ताशकंद में अचानक उनका देहान्त हो गया। ताशकंद तब भूतपूर्व सोवियत संघ में था और आज यह उज्बेकिस्तान की राजधानी है। युद्ध की समाप्ति के सिलसिले में पाकिस्तान के तत्कालीन राष्ट्रपति मोहम्मद अयूब खान से बातचीत करने और एक समझौते पर हस्ताक्षर करने के लिए वे ताशकंद गए थे।

लाल बहादुर शास्त्री का प्रधानमंत्री बने रहना अचानक _____ तारीख को खत्म हो गया

1. 10 जनवरी 1966
2. 10 फरवरी 1966
3. 10 जनवरी 1964
4. 10 फरवरी 1964

Options :

485584135101. 1
485584135102. 2
485584135103. 3
485584135104. 4

Question Number : 462 Question Id : 48558433777 Question Type : MCQ Option Shuffling : No Is Question Mandatory : No Calculator : None Response Time : N.A Think Time : N.A Minimum Instruction Time : 0

Correct Marks : 5 Wrong Marks : 1

Question Key Details :

Key	Value
Comprehension	Compl

Read the paragraph given below and answer the following questions.

Shastri was the country's Prime Minister from 1964-1966. During Shastri's brief Prime Ministership, the country faced two major challenges. While India was still recovering from the economic implications of the war with China, failed monsoons, drought and serious food crisis presented a grave challenge. The country also faced a war with Pakistan in 1965. Shastri's famous slogan 'Jai Jawan Jai Kisan', symbolised the country's resolve to face both these challenges.

Shastri's Prime Ministership came to an abrupt end on 10 January 1966, when he suddenly expired in Tashkent, then in USSR and currently the capital of Uzbekistan. He was there to discuss and sign an agreement with Muhammad Ayub Khan, the then President of Pakistan, to end the war.

During the Prime Ministership of Lal Bahadur Shastri, India faces a war with

1. China
2. Pakistan
3. Bhutan
4. Sri Lanka

Options :

485584135105. 1
485584135106. 2
485584135107. 3
485584135108. 4

Question Number : 462 Question Id : 48558433777 Question Type : MCQ Option Shuffling : No Is Question Mandatory : No Calculator : None Response Time : N.A Think Time : N.A Minimum Instruction Time : 0

Correct Marks : 5 Wrong Marks : 1

Question Key Details :

Key	Value
Comprehension	Comp1

नीचे दिये गद्यांश को पढ़े और दिये गये प्रश्नों के उत्तर दें-

शास्त्री 1964 से 1966 तक देश के प्रधानमंत्री रहे। इस पद पर बड़े कम दिनों तक रहे लेकिन इसी छोटी अवधि में देश ने दो बड़ी चुनौतियों का सामना किया। भारत, चीन युद्ध के कारण पैदा हुई आर्थिक कठिनाईयों से उबरने की कोशिश कर रहा था। साथ ही मानसून की असफलता से देश में सूखे की स्थिति थी। कई जगहों पर खाद्यान का गंभीर संकट आन पड़ा था। 1965 में पाकिस्तान के साथ भी युद्ध करना पड़ा। शास्त्री ने 'जय जवान-जय किसान' का नारा दिया, जिससे इन दोनों चुनौतियों से निपटने के उनके दृढ़ संकल्प का पता चलता है।

प्रधानमंत्री के पद पर शास्त्री बड़े कम दिनों तक रहे। 10 जनवरी 1966 को ताशकंद में अचानक उनका देहान्त हो गया। ताशकंद तब भूतपूर्व सोवियत संघ में था और आज यह उज़्बेकिस्तान की राजधानी है। युद्ध की समाप्ति के सिलसिले में पाकिस्तान के तत्कालीन राष्ट्रपति मोहम्मद अयूब खान से बातचीत करने और एक समझौते पर हस्ताक्षर करने के लिए वे ताशकंद गए थे।

लाल बहादुर शास्त्री के प्रधानमंत्री रहते भारत ने _____ के साथ युद्ध का सामना किया।

1. चीन
2. पाकिस्तान
3. भूटान
4. श्री लंका

Options :

485584135105. 1
485584135106. 2
485584135107. 3
485584135108. 4

Question Number : 463 Question Id : 48558433778 Question Type : MCQ Option Shuffling : No Is Question Mandatory : No Calculator : None Response Time : N.A Think Time : N.A Minimum Instruction Time : 0

Correct Marks : 5 Wrong Marks : 1

Question Key Details :

Key	Value
Comprehension	Compl

Read the paragraph given below and answer the following questions.

Shastri was the country's Prime Minister from 1964-1966. During Shastri's brief Prime Ministership, the country faced two major challenges. While India was still recovering from the economic implications of the war with China, failed monsoons, drought and serious food crisis presented a grave challenge. The country also faced a war with Pakistan in 1965. Shastri's famous slogan 'Jai Jawan Jai Kisan', symbolised the country's resolve to face both these challenges.

Shastri's Prime Ministership came to an abrupt end on 10 January 1966, when he suddenly expired in Tashkent, then in USSR and currently the capital of Uzbekistan. He was there to discuss and sign an agreement with Muhammad Ayub Khan, the then President of Pakistan, to end the war.

Lal Bahadur Shastri was India's Prime Minister from:

1. 1965 - 1966
2. 1962 - 1966
3. 1964 - 1966
4. 1962 - 1966

Options :

485584135109. 1
485584135110. 2
485584135111. 3
485584135112. 4

Question Number : 463 Question Id : 48558433778 Question Type : MCQ Option Shuffling : No Is Question Mandatory : No Calculator : None Response Time : N.A Think Time : N.A Minimum Instruction Time : 0

Correct Marks : 5 Wrong Marks : 1

Question Key Details :

Key	Value
Comprehension	Comp1

नीचे दिये गद्यांश को पढ़े और दिये गये प्रश्नों के उत्तर दें-

शास्त्री 1964 से 1966 तक देश के प्रधानमंत्री रहे। इस पद पर बड़े कम दिनों तक रहे लेकिन इसी छोटी अवधि में देश ने दो बड़ी चुनौतियों का सामना किया। भारत, चीन युद्ध के कारण पैदा हुई आर्थिक कठिनाईयों से उबरने की कोशिश कर रहा था। साथ ही मानसून की असफलता से देश में सूखे की स्थिति थी। कई जगहों पर खाद्यान का गंभीर संकट आन पड़ा था। 1965 में पाकिस्तान के साथ भी युद्ध करना पड़ा। शास्त्री ने 'जय जवान-जय किसान' का नारा दिया, जिससे इन दोनों चुनौतियों से निपटने के उनके दृढ़ संकल्प का पता चलता है।

प्रधानमंत्री के पद पर शास्त्री बड़े कम दिनों तक रहे। 10 जनवरी 1966 को ताशकंद में अचानक उनका देहान्त हो गया। ताशकंद तब भूतपूर्व सोवियत संघ में था और आज यह उज़्बेकिस्तान की राजधानी है। युद्ध की समाप्ति के सिलसिले में पाकिस्तान के तत्कालीन राष्ट्रपति मोहम्मद अयूब खान से बातचीत करने और एक समझौते पर हस्ताक्षर करने के लिए वे ताशकंद गए थे।

लाल बहादुर कब से कब तक भारत के प्रधानमंत्री थे?

1. 1965 - 1966
2. 1962 - 1966
3. 1964 - 1966
4. 1962 - 1966

Options :

485584135109. 1
485584135110. 2
485584135111. 3
485584135112. 4

Question Number : 464 Question Id : 48558433779 Question Type : MCQ Option Shuffling : No Is Question Mandatory : No Calculator : None Response Time : N.A Think Time : N.A Minimum Instruction Time : 0

Correct Marks : 5 Wrong Marks : 1

Question Key Details :

Key	Value
Comprehension	Comp1

Read the paragraph given below and answer the following questions.

Shastri was the country's Prime Minister from 1964-1966. During Shastri's brief Prime Ministership, the country faced two major challenges. While India was still recovering from the economic implications of the war with China, failed monsoons, drought and serious food crisis presented a grave challenge. The country also faced a war with Pakistan in 1965. Shastri's famous slogan 'Jai Jawan Jai Kisan', symbolised the country's resolve to face both these challenges.

Shastri's Prime Ministership came to an abrupt end on 10 January 1966, when he suddenly expired in Tashkent, then in USSR and currently the capital of Uzbekistan. He was there to discuss and sign an agreement with Muhammad Ayub Khan, the then President of Pakistan, to end the war.

Tashkent is the capital of which country now?

1. USSR
2. Uzbekistan
3. China
4. Pakistan

Options :

485584135113. 1
485584135114. 2
485584135115. 3
485584135116. 4

Question Number : 464 Question Id : 48558433779 Question Type : MCQ Option Shuffling : No Is Question Mandatory : No Calculator : None Response Time : N.A Think Time : N.A Minimum Instruction Time : 0

Correct Marks : 5 Wrong Marks : 1

Question Key Details :

Key	Value
Comprehension	Comp1

नीचे दिये गद्यांश को पढ़े और दिये गये प्रश्नों के उत्तर दें-

शास्त्री 1964 से 1966 तक देश के प्रधानमंत्री रहे। इस पद पर बड़े कम दिनों तक रहे लेकिन इसी छोटी अवधि में देश ने दो बड़ी चुनौतियों का सामना किया। भारत, चीन युद्ध के कारण पैदा हुई आर्थिक कठिनाईयों से उबरने की कोशिश कर रहा था। साथ ही मानसून की असफलता से देश में सूखे की स्थिति थी। कई जगहों पर खाद्यान का गंभीर संकट आन पड़ा था। 1965 में पाकिस्तान के साथ भी युद्ध करना पड़ा। शास्त्री ने 'जय जवान-जय किसान' का नारा दिया, जिससे इन दोनों चुनौतियों से निपटने के उनके दृढ़ संकल्प का पता चलता है।

प्रधानमंत्री के पद पर शास्त्री बड़े कम दिनों तक रहे। 10 जनवरी 1966 को ताशकंद में अचानक उनका देहान्त हो गया। ताशकंद तब भूतपूर्व सोवियत संघ में था और आज यह उज़्बेकिस्तान की राजधानी है। युद्ध की समाप्ति के सिलसिले में पाकिस्तान के तत्कालीन राष्ट्रपति मोहम्मद अयूब खान से बातचीत करने और एक समझौते पर हस्ताक्षर करने के लिए वे ताशकंद गए थे।

ताशकंद आज किस देश की राजधानी है?

1. सोवियत संघ
2. उज़्बेकिस्तान
3. चीन
4. पाकिस्तान

Options :

485584135113. 1
485584135114. 2
485584135115. 3
485584135116. 4

Question Number : 465 Question Id : 48558433780 Question Type : MCQ Option Shuffling : No Is Question Mandatory : No Calculator : None Response Time : N.A Think Time : N.A Minimum Instruction Time : 0

Correct Marks : 5 Wrong Marks : 1

Question Key Details :

Key	Value
Comprehension	Comp1

Read the paragraph given below and answer the following questions.

Shastri was the country's Prime Minister from 1964-1966. During Shastri's brief Prime Ministership, the country faced two major challenges. While India was still recovering from the economic implications of the war with China, failed monsoons, drought and serious food crisis presented a grave challenge. The country also faced a war with Pakistan in 1965. Shastri's famous slogan 'Jai Jawan Jai Kisan', symbolised the country's resolve to face both these challenges.

Shastri's Prime Ministership came to an abrupt end on 10 January 1966, when he suddenly expired in Tashkent, then in USSR and currently the capital of Uzbekistan. He was there to discuss and sign an agreement with Muhammad Ayub Khan, the then President of Pakistan, to end the war.

Name the leader who had resigned from the position of Railway Minister accepting moral responsibility for a major railway accident.

1. K. Kamraj
2. Morarji Desai
3. Jawahar Lal Nehru
4. Lal Bahadur Shastri

Options :

485584135117. 1
485584135118. 2
485584135119. 3
485584135120. 4

Question Number : 465 Question Id : 48558433780 Question Type : MCQ Option Shuffling : No Is Question Mandatory : No Calculator : None Response Time : N.A Think Time : N.A Minimum Instruction Time : 0

Correct Marks : 5 Wrong Marks : 1

Question Key Details :

Key	Value
Comprehension	Comp1

नीचे दिये गद्यांश को पढ़े और दिये गये प्रश्नों के उत्तर दें-

शास्त्री 1964 से 1966 तक देश के प्रधानमंत्री रहे। इस पद पर बड़े कम दिनों तक रहे लेकिन इसी छोटी अवधि में देश ने दो बड़ी चुनौतियों का सामना किया। भारत, चीन युद्ध के कारण पैदा हुई आर्थिक कठिनाईयों से उबरने की कोशिश कर रहा था। साथ ही मानसून की असफलता से देश में सूखे की स्थिति थी। कई जगहों पर खाद्यान्न का गंभीर संकट आन पड़ा था। 1965 में पाकिस्तान के साथ भी युद्ध करना पड़ा। शास्त्री ने 'जय जवान-जय किसान' का नारा दिया, जिससे इन दोनों चुनौतियों से निपटने के उनके दृढ़ संकल्प का पता चलता है।

प्रधानमंत्री के पद पर शास्त्री बड़े कम दिनों तक रहे। 10 जनवरी 1966 को ताशकंद में अचानक उनका देहान्त हो गया। ताशकंद तब भूतपूर्व सोवियत संघ में था और आज यह उज़्बेकिस्तान की राजधानी है। युद्ध की समाप्ति के सिलसिले में पाकिस्तान के तत्कालीन राष्ट्रपति मोहम्मद अयूब खान से बातचीत करने और एक समझौते पर हस्ताक्षर करने के लिए वे ताशकंद गए थे।

उस नेता का नाम बताएं जिसने एक बड़े हादसे की नैतिक जिम्मेदारी लेते हुए रेलवे मंत्री के पद से इस्तीफा दे दिया था।

1. के. कामराज
2. मोरारजी देसाई
3. जवाहरलाल नेहरू
4. लाल बहादुर शास्त्री

Options :

485584135117. 1
485584135118. 2
485584135119. 3
485584135120. 4

Sub-Section Number :

3

Sub-Section Id :

4855842444

Question Shuffling Allowed :

No

Is Section Default? :

null

Question Number : 466 Question Id : 48558433781 Question Type : MCQ Option Shuffling : No Is Question Mandatory : No Calculator : None Response Time : N.A Think Time : N.A Minimum Instruction Time : 0

Correct Marks : 5 Wrong Marks : 1

Question Key Details :

Key	Value
Comprehension	Comp2

The Indian Government is already participating in global efforts through a number of programmes. For example, India's National Auto-fuel Policy mandates cleaner fuels for vehicles. The energy Conservation Act, passed in 2001, outlines initiative to improve energy efficiency. Similarly, the Electricity Act of 2003 encourages the use of renewable energy. Recent trends in importing natural gas and encouraging the adoption of clean coal technologies show that India has been making real efforts. the Government is also keen to launch a National Mission on Biodiesel, using about 11 million hectares of land to produce biodiesel by 2011-2012. India ratified the Paris Climate Agreement on 2 October 2016. And India has one of the largest renewable energy programmes in the world.

A review of the implementation of the agreements at the Earth Summit in Rio was undertaken by India in 1997.

India feels this contravenes very spirit of UNFCCC. Neither does it seem fair to impose restrictions on India when the country's rise in per capita carbon emissions by 2030 is likely to still represent less than half the world average of 3.8 tonnes in 2000. Indian emissions are predicted to rise from 0.9 tonnes per capita in 2000 to 1.6 tonnes per capita in 2030

Reservation Act was passed in

1. 2000
2. 2001
3. 2002
4. 2003

Options :

- 485584135121. 1
- 485584135122. 2
- 485584135123. 3
- 485584135124. 4

Question Number : 466 Question Id : 48558433781 Question Type : MCQ Option Shuffling : No Is Question Mandatory : No Calculator : None Response Time : N.A Think Time : N.A Minimum Instruction Time : 0

Correct Marks : 5 Wrong Marks : 1

Question Key Details :

Key	Value
Comprehension	Comp2

भारत की सरकार विभिन्न कार्यक्रमों के जरिए पर्यावरण से संबंधित वैश्विक प्रयासों में शिरकत कर रही है। मिसाल के लिए अपनी नॅशनल ऑटो-फ्यूल पॉलिसी के अंतर्गत वाहनों के लिए स्वच्छतर ईंधन अनिवार्य कर दिया है। 2001 में ऊर्जा-संरक्षण अधिनियम पारित हुआ। इसमें ऊर्जा के ज्यादा कारगर इस्तेमाल की पहल की गयी है। ठीक इसी तरह 2003 के बिजली अधिनियम में पुनर्नवीकृत (Renewable)ऊर्जा के इस्तेमाल को बढ़ावा दिया गया है। हाल में प्राकृतिक गैस के आयात और स्वच्छ कोयले के उपयोग पर आधारित प्रौद्योगिकी को अपनाने की तरफ रुझान बढ़ा है। इससे पता चलता है कि भारत पर्यावरण सुरक्षा के लिहाज से ठोस कदम उठा रहा है। भारत बायोडीजलसे संबंधित एक राष्ट्रीय मिशन चलाने के लिए भी तत्पर है। इसके अंतर्गत 2011-12 तक बायोडीजल तैयार होने लगेगा और इसमें 1 करोड़ 10 लाख हेक्टेयर भूमि का इस्तेमाल होगा। भारत ने 2 अक्टूबर 2016 को पेरिस जलवायु समझौते को अनुमोदित किया। पुनर्नवीकृत होने वाली ऊर्जा के सबसे बड़े कार्यक्रमों में से एक भारत में चल रहा है।

भारत ने पृथ्वी-सम्मेलन (रियो) के समझौतों के क्रियान्वयन का एक पुनरावलोकन 1997 में किया। भारत का मानना है कि यह बात UNFCCC की मूल भावना के विरुद्ध है। भारत पर इस तरह की बाध्यता करना अनुचित भी है। भारत में 2030तक कार्बन का प्रति व्यक्ति उत्सर्जन बढ़ने के बावजूद विश्व के (सन् 2000)के औसत (3.8 टन प्रति व्यक्ति) के आधे से भी कम होगा। 2000 तक भारत का प्रति व्यक्ति उत्सर्जन 0.9 टन था और अनुमान है कि 2030 तक यह मात्रा बढ़कर 1.6 टन हो जाएगी।

आरक्षण कानून पास हुआ था

1. 2000
2. 2001
3. 2002
4. 2003

Options :

485584135121. 1
 485584135122. 2
 485584135123. 3
 485584135124. 4

Question Number : 467 Question Id : 48558433782 Question Type : MCQ Option Shuffling : No Is Question Mandatory : No Calculator : None Response Time : N.A Think Time : N.A Minimum Instruction Time : 0

Correct Marks : 5 Wrong Marks : 1

Question Key Details :

Key	Value
Comprehension	Comp2

The Indian Government is already participating in global efforts through a number of programmes. For example, India's National Auto-fuel Policy mandates cleaner fuels for vehicles. The energy Conservation Act, passed in 2001, outlines initiative to improve energy efficiency. Similarly, the Electricity Act of 2003 encourages the use of renewable energy. Recent trends in importing natural gas and encouraging the adoption of clean coal technologies show that India has been making real efforts. the Government is also keen to launch a National Mission on Biodiesel, using about 11 million hectares of land to produce biodiesel by 2011-2012. India ratified the Paris Climate Agreement on 2 October 2016. And India has one of the largest renewable energy programmes in the world.

A review of the implementation of the agreements at the Earth Summit in Rio was undertaken by India in 1997.

India feels this contravenes very spirit of UNFCCC. Neither does it seem fair to impose restrictions on India when the country's rise in per capita carbon emissions by 2030 is likely to still represent less than half the world average of 3.8 tonnes in 2000. Indian emissions are predicted to rise from 0.9 tonnes per capita in 2000 to 1.6 tonnes per capita in 2030

Electricity Act of 2003 encourages the uses of

1. Renewable energy
2. Non renewable energy
3. No use of col technology
4. Not importing the natural gas

Options :

- 485584135125. 1
- 485584135126. 2
- 485584135127. 3
- 485584135128. 4

Question Number : 467 Question Id : 48558433782 Question Type : MCQ Option Shuffling : No Is Question Mandatory : No Calculator : None Response Time : N.A Think Time : N.A Minimum Instruction Time : 0

Correct Marks : 5 Wrong Marks : 1

Question Key Details :

Key	Value
Comprehension	Comp2

भारत की सरकार विभिन्न कार्यक्रमों के जरिए पर्यावरण से संबंधित वैश्विक प्रयासों में शिरकत कर रही है। मिसाल के लिए अपनी नॅशनल ऑटो-फ्यूल पॉलिसी के अंतर्गत वाहनों के लिए स्वच्छतर ईंधन अनिवार्य कर दिया है। 2001 में ऊर्जा-संरक्षण अधिनियम पारित हुआ। इसमें ऊर्जा के ज्यादा कारगर इस्तेमाल की पहल की गयी है। ठीक इसी तरह 2003 के बिजली अधिनियम में पुनर्नवीकृत (Renewable) ऊर्जा के इस्तेमाल को बढ़ावा दिया गया है। हाल में प्राकृतिक गैस के आयात और स्वच्छ कोयले के उपयोग पर आधारित प्रौद्योगिकी को अपनाने की तरफ रुझान बढ़ा है। इससे पता चलता है कि भारत पर्यावरण सुरक्षा के लिहाज से ठोस कदम उठा रहा है। भारत बायोडीजल से संबंधित एक राष्ट्रीय मिशन चलाने के लिए भी तत्पर है। इसके अंतर्गत 2011-12 तक बायोडीजल तैयार होने लगेगा और इसमें 1 करोड़ 10 लाख हेक्टेयर भूमि का इस्तेमाल होगा। भारत ने 2 अक्टूबर 2016 को पेरिस जलवायु समझौते को अनुमोदित किया। पुनर्नवीकृत होने वाली ऊर्जा के सबसे बड़े कार्यक्रमों में से एक भारत में चल रहा है।

भारत ने पृथ्वी-सम्मेलन (रियो) के समझौतों के क्रियान्वयन का एक पुनरावलोकन 1997 में किया। भारत का मानना है कि यह बात UNFCCC की मूल भावना के विरुद्ध है। भारत पर इस तरह की बाध्यता करना अनुचित भी है। भारत में 2030 तक कार्बन का प्रति व्यक्ति उत्सर्जन बढ़ने के बावजूद विश्व के (सन् 2000)के औसत (3.8 टन प्रति व्यक्ति) के आधे से भी कम होगा। 2000 तक भारत का प्रति व्यक्ति उत्सर्जन 0.9 टन था और अनुमान है कि 2030 तक यह मात्रा बढ़कर 1.6 टन हो जाएगी।

2003 के बिजली अधिनियम में _____ के इस्तेमाल को बढ़ावा दिया गया है।

1. पुनर्नवा ऊर्जा (renewable)
2. गैर पुनर्नवा ऊर्जा
3. कोयला प्रौद्योगिकी का कोई प्रयोग नहीं
4. प्राकृतिक गैस का कोई आयात नहीं

Options :

- 485584135125. 1
- 485584135126. 2
- 485584135127. 3
- 485584135128. 4

Question Number : 468 Question Id : 48558433783 Question Type : MCQ Option Shuffling : No Is Question Mandatory : No Calculator : None Response Time : N.A Think Time : N.A Minimum Instruction Time : 0

Correct Marks : 5 Wrong Marks : 1

Question Key Details :

Key	Value
Comprehension	Comp2

The Indian Government is already participating in global efforts through a number of programmes. For example, India's National Auto-fuel Policy mandates cleaner fuels for vehicles. The energy Conservation Act, passed in 2001, outlines initiative to improve energy efficiency. Similarly, the Electricity Act of 2003 encourages the use of renewable energy. Recent trends in importing natural gas and encouraging the adoption of clean coal technologies show that India has been making real efforts. the Government is also keen to launch a National Mission on Biodiesel, using about 11 million hectares of land to produce biodiesel by 2011-2012. India ratified the Paris Climate Agreement on 2 October 2016. And India has one of the largest renewable energy programmes in the world.

A review of the implementation of the agreements at the Earth Summit in Rio was undertaken by India in 1997.

India feels this contravenes very spirit of UNFCCC. Neither does it seem fair to impose restrictions on India when the country's rise in per capita carbon emissions by 2030 is likely to still represent less than half the world average of 3.8 tonnes in 2000. Indian emissions are predicted to rise from 0.9 tonnes per capita in 2000 to 1.6 tonnes per capita in 2030

In which year India ratified the Paris Climate Agreement?

1. 2014
2. 2015
3. 2016
4. 2017

Options :

- 485584135129. 1
- 485584135130. 2
- 485584135131. 3
- 485584135132. 4

Question Number : 468 Question Id : 48558433783 Question Type : MCQ Option Shuffling : No Is Question Mandatory : No Calculator : None Response Time : N.A Think Time : N.A Minimum Instruction Time : 0

Correct Marks : 5 Wrong Marks : 1

Question Key Details :

Key	Value
Comprehension	Comp2

भारत की सरकार विभिन्न कार्यक्रमों के जरिए पर्यावरण से संबंधित वैश्विक प्रयासों में शिरकत कर रही है। मिसाल के लिए अपनी नॅशनल ऑटो-फ्यूल पॉलिसी के अंतर्गत वाहनों के लिए स्वच्छतर ईंधन अनिवार्य कर दिया है। 2001 में ऊर्जा-संरक्षण अधिनियम पारित हुआ। इसमें ऊर्जा के ज्यादा कारगर इस्तेमाल की पहल की गयी है। ठीक इसी तरह 2003 के बिजली अधिनियम में पुनर्नवीकृत (Renewable)ऊर्जा के इस्तेमाल को बढ़ावा दिया गया है। हाल में प्राकृतिक गैस के आयात और स्वच्छ कोयले के उपयोग पर आधारित प्रोद्योगिकी को अपनाने की तरफ रुझान बढ़ा है। इससे पता चलता है कि भारत पर्यावरण सुरक्षा के लिहाज से ठोस कदम उठा रहा है। भारत बायोडीजलसे संबंधित एक राष्ट्रीय मिशन चलाने के लिए भी तत्पर है। इसके अंतर्गत 2011-12 तक बायोडीजल तैयार होने लगेगा और इसमें 1 करोड़ 10 लाख हेक्टेयर भूमि का इस्तेमाल होगा। भारत ने 2 अक्टूबर 2016 को पेरिस जलवायु समझौते को अनुमोदित किया। पुनर्नवीकृत होने वाली ऊर्जा के सबसे बड़े कार्यक्रमों में से एक भारत में चल रहा है।

भारत ने पृथ्वी-सम्मेलन (रियो) के समझौतों के क्रियान्वयन का एक पुनरावलोकन 1997 में किया। भारत का मानना है कि यह बात UNFCCC की मूल भावना के विरुद्ध है। भारत पर इस तरह की बाध्यता करना अनुचित भी है। भारत में 2030तक कार्बन का प्रति व्यक्ति उत्सर्जन बढ़ने के बावजूद विश्व के (सन् 2000)के औसत (3.8 टन प्रति व्यक्ति) के आधे से भी कम होगा। 2000 तक भारत का प्रति व्यक्ति उत्सर्जन 0.9 टन था और अनुमान है कि 2030 तक यह मात्रा बढ़कर 1.6 टन हो जाएगी।

भारत ने किस वर्ष में पेरिस जलवायु समझौते को अनुमोदित किया?

1. 2014
2. 2015
3. 2016
4. 2017

Options :

485584135129. 1
 485584135130. 2
 485584135131. 3
 485584135132. 4

Question Number : 469 Question Id : 48558433784 Question Type : MCQ Option Shuffling : No Is Question Mandatory : No Calculator : None Response Time : N.A Think Time : N.A Minimum Instruction Time : 0

Correct Marks : 5 Wrong Marks : 1

Question Key Details :

Key	Value
Comprehension	Comp2

The Indian Government is already participating in global efforts through a number of programmes. For example, India's National Auto-fuel Policy mandates cleaner fuels for vehicles. The energy Conservation Act, passed in 2001, outlines initiative to improve energy efficiency. Similarly, the Electricity Act of 2003 encourages the use of renewable energy. Recent trends in importing natural gas and encouraging the adoption of clean coal technologies show that India has been making real efforts. the Government is also keen to launch a National Mission on Biodiesel, using about 11 million hectares of land to produce biodiesel by 2011-2012. India ratified the Paris Climate Agreement on 2 October 2016. And India has one of the largest renewable energy programmes in the world.

A review of the implementation of the agreements at the Earth Summit in Rio was undertaken by India in 1997.

India feels this contravenes very spirit of UNFCCC. Neither does it seem fair to impose restrictions on India when the country's rise in per capita carbon emissions by 2030 is likely to still represent less than half the world average of 3.8 tonnes in 2000. Indian emissions are predicted to rise from 0.9 tonnes per capita in 2000 to 1.6 tonnes per capita in 2030

India emission are predicted to rise 1.6 tonnes per capital in _____

1. 2025
2. 2030
3. 2035
4. 2040

Options :

- 485584135133. 1
- 485584135134. 2
- 485584135135. 3
- 485584135136. 4

Question Number : 469 Question Id : 48558433784 Question Type : MCQ Option Shuffling : No Is Question Mandatory : No Calculator : None Response Time : N.A Think Time : N.A Minimum Instruction Time : 0

Correct Marks : 5 Wrong Marks : 1

Question Key Details :

Key	Value
Comprehension	Comp2

भारत की सरकार विभिन्न कार्यक्रमों के जरिए पर्यावरण से संबंधित वैश्विक प्रयासों में शिरकत कर रही है। मिसाल के लिए अपनी नॅशनल ऑटो-फ्यूल पॉलिसी के अंतर्गत वाहनों के लिए स्वच्छतर ईंधन अनिवार्य कर दिया है। 2001 में ऊर्जा-संरक्षण अधिनियम पारित हुआ। इसमें ऊर्जा के ज्यादा कारगर इस्तेमाल की पहल की गयी है। ठीक इसी तरह 2003 के बिजली अधिनियम में पुनर्नवीकृत (Renewable) ऊर्जा के इस्तेमाल को बढ़ावा दिया गया है। हाल में प्राकृतिक गैस के आयात और स्वच्छ कोयले के उपयोग पर आधारित प्रोद्योगिकी को अपनाने की तरफ रुझान बढ़ा है। इससे पता चलता है कि भारत पर्यावरण सुरक्षा के लिहाज से ठोस कदम उठा रहा है। भारत बायोडीजलसे संबंधित एक राष्ट्रीय मिशन चलाने के लिए भी तत्पर है। इसके अंतर्गत 2011-12 तक बायोडीजल तैयार होने लगेगा और इसमें 1 करोड़ 10 लाख हेक्टेयर भूमि का इस्तेमाल होगा। भारत ने 2 अक्टूबर 2016 को पेरिस जलवायु समझौते को अनुमोदित किया। पुनर्नवीकृत होने वाली ऊर्जा के सबसे बड़े कार्यक्रमों में से एक भारत में चल रहा है।

भारत ने पृथ्वी-सम्मेलन (रियो) के समझौतों के क्रियान्वयन का एक पुनरावलोकन 1997 में किया। भारत का मानना है कि यह बात UNFCCC की मूल भावना के विरुद्ध है। भारत पर इस तरह की बाध्यता करना अनुचित भी है। भारत में 2030 तक कार्बन का प्रति व्यक्ति उत्सर्जन बढ़ने के बावजूद विश्व के (सन् 2000)के औसत (3.8 टन प्रति व्यक्ति) के आधे से भी कम होगा। 2000 तक भारत का प्रति व्यक्ति उत्सर्जन 0.9 टन था और अनुमान है कि 2030 तक यह मात्रा बढ़कर 1.6 टन हो जाएगी।

भारत का प्रति व्यक्ति उत्सर्जन _____ तक बढ़कर 1.6 टन प्रतिव्यक्ति हो जाएगा।

1. 2025
2. 2030
3. 2035
4. 2040

Options :

- 485584135133. 1
- 485584135134. 2
- 485584135135. 3
- 485584135136. 4

Question Number : 470 Question Id : 48558433785 Question Type : MCQ Option Shuffling : No Is Question Mandatory : No Calculator : None Response Time : N.A Think Time : N.A Minimum Instruction Time : 0

Correct Marks : 5 Wrong Marks : 1

Question Key Details :

Key	Value
Comprehension	Comp2

The Indian Government is already participating in global efforts through a number of programmes. For example, India's National Auto-fuel Policy mandates cleaner fuels for vehicles. The energy Conservation Act, passed in 2001, outlines initiative to improve energy efficiency. Similarly, the Electricity Act of 2003 encourages the use of renewable energy. Recent trends in importing natural gas and encouraging the adoption of clean coal technologies show that India has been making real efforts. the Government is also keen to launch a National Mission on Biodiesel, using about 11 million hectares of land to produce biodiesel by 2011-2012. India ratified the Paris Climate Agreement on 2 October 2016. And India has one of the largest renewable energy programmes in the world.

A review of the implementation of the agreements at the Earth Summit in Rio was undertaken by India in 1997.

India feels this contravenes very spirit of UNFCCC. Neither does it seem fair to impose restrictions on India when the country's rise in per capita carbon emissions by 2030 is likely to still represent less than half the world average of 3.8 tonnes in 2000. Indian emissions are predicted to rise from 0.9 tonnes per capita in 2000 to 1.6 tonnes per capita in 2030

Write the full form of UNFCCC

1. United Nations Framework Convention on Climate Change
2. Union Nations Framework Connection on Climate Change
3. United National Framework Connection on Climate Change
4. United Nations Forum Convention on Climate Change

Options :

- 485584135137. 1
- 485584135138. 2
- 485584135139. 3
- 485584135140. 4

Question Number : 470 Question Id : 48558433785 Question Type : MCQ Option Shuffling : No Is Question Mandatory : No Calculator : None Response Time : N.A Think Time : N.A Minimum Instruction Time : 0

Correct Marks : 5 Wrong Marks : 1

Question Key Details :

Key	Value
Comprehension	Comp2

भारत की सरकार विभिन्न कार्यक्रमों के जरिए पर्यावरण से संबंधित वैश्विक प्रयासों में शिरकत कर रही है। मिसाल के लिए अपनी नॅशनल ऑटो-फ्यूल पॉलिसी के अंतर्गत वाहनों के लिए स्वच्छतर ईंधन अनिवार्य कर दिया है। 2001 में ऊर्जा-संरक्षण अधिनियम पारित हुआ। इसमें ऊर्जा के ज्यादा कारगर इस्तेमाल की पहल की गयी है। ठीक इसी तरह 2003 के बिजली अधिनियम में पुनर्नवीकृत (Renewable) ऊर्जा के इस्तेमाल को बढ़ावा दिया गया है। हाल में प्राकृतिक गैस के आयात और स्वच्छ कोयले के उपयोग पर आधारित प्रोद्योगिकी को अपनाने की तरफ रुझान बढ़ा है। इससे पता चलता है कि भारत पर्यावरण सुरक्षा के लिहाज से ठोस कदम उठा रहा है। भारत बायोडीजल से संबंधित एक राष्ट्रीय मिशन चलाने के लिए भी तत्पर है। इसके अंतर्गत 2011-12 तक बायोडीजल तैयार होने लगेगा और इसमें 1 करोड़ 10 लाख हेक्टेयर भूमि का इस्तेमाल होगा। भारत ने 2 अक्टूबर 2016 को पेरिस जलवायु समझौते को अनुमोदित किया। पुनर्नवीकृत होने वाली ऊर्जा के सबसे बड़े कार्यक्रमों में से एक भारत में चल रहा है।

भारत ने पृथ्वी-सम्मेलन (रियो) के समझौतों के क्रियान्वयन का एक पुनरावलोकन 1997 में किया। भारत का मानना है कि यह बात UNFCCC की मूल भावना के विरुद्ध है। भारत पर इस तरह की बाध्यता करना अनुचित भी है। भारत में 2030 तक कार्बन का प्रति व्यक्ति उत्सर्जन बढ़ने के बावजूद विश्व के (सन् 2000)के औसत (3.8 टन प्रति व्यक्ति) के आधे से भी कम होगा। 2000 तक भारत का प्रति व्यक्ति उत्सर्जन 0.9 टन था और अनुमान है कि 2030 तक यह मात्रा बढ़कर 1.6 टन हो जाएगी।

UNFCCC का पूरा नाम लिखिए

1. यूनाइटेड नेशन्स फ्रेमवर्क कंवेशन ऑन क्लाइमेट चेंज
2. यूनियन नेशन्स फ्रेमवर्क कंवेशन ऑन क्लाइमेट चेंज
3. यूनाइटेड नेशनल फ्रेमवर्क कंवेशन ऑन क्लाइमेट चेंज
4. यूनाइटेड नेशन्स फोरम कंवेशन ऑन क्लाइमेट चेंज

Options :

485584135137. 1
 485584135138. 2
 485584135139. 3
 485584135140. 4

Sociology

Group Number :	12
Group Id :	485584750
Group Maximum Duration :	45
Group Minimum Duration :	45
Show Attended Group? :	No
Edit Attended Group? :	No
Break time :	0
Group Marks :	200
Is this Group for Examiner? :	No
Examiner permission :	Cant View
Show Progress Bar? :	No

Sociology

Section Id : 485584868

Section Number : 1
Section type : Online
Mandatory or Optional : Mandatory
Number of Questions : 50
Number of Questions to be attempted : 40
Section Marks : 200
Enable Mark as Answered Mark for Review and Clear Response : Yes
Maximum Instruction Time : 0
Sub-Section Number : 1
Sub-Section Id : 4855842445
Question Shuffling Allowed : Yes
Is Section Default? : null

Question Number : 471 Question Id : 48558433786 Question Type : MCQ Option Shuffling : No Is Question Mandatory : No Calculator : None Response Time : N.A Think Time : N.A Minimum Instruction Time : 0 Correct Marks : 5 Wrong Marks : 1 Question Key Details :

Key	Value
Comprehension	MCQ

What is the basis of creation of the new states of Chattisgarh, Uttarakhand and Jharkhand?

1. Ethnicity
2. Administrative
3. Linguistic
4. Special Status

Options :

485584135141. 1
485584135142. 2
485584135143. 3
485584135144. 4

Question Number : 471 Question Id : 48558433786 Question Type : MCQ Option Shuffling : No Is Question Mandatory : No Calculator : None Response Time : N.A Think Time : N.A Minimum Instruction Time : 0 Correct Marks : 5 Wrong Marks : 1 Question Key Details :

Key	Value
Comprehension	MCQ

नए राज्य छत्तीसगढ़, उत्तराखंड एवं झारखंड को बनाने का क्या आधार है ?

1. नैतिकता
2. प्रशासनिक
3. भाषायी
4. विशेष स्थिति

Options :

485584135141. 1
485584135142. 2
485584135143. 3
485584135144. 4

**Question Number : 472 Question Id : 48558433787 Question Type : MCQ Option Shuffling : No Is Question Mandatory :
No Calculator : None Response Time : N.A Think Time : N.A Minimum Instruction Time : 0**

Correct Marks : 5 Wrong Marks : 1

Question Key Details :

Key	Value
Comprehension	MCQ

Policies which are aimed at persuading, encouraging or forcing all citizens to adopt a uniform set of cultural values and norms is called

1. Pluralist
2. Nationalist
3. Assimilationist
4. Multiculturalist

Options :

485584135145. 1
485584135146. 2
485584135147. 3
485584135148. 4

**Question Number : 472 Question Id : 48558433787 Question Type : MCQ Option Shuffling : No Is Question Mandatory :
No Calculator : None Response Time : N.A Think Time : N.A Minimum Instruction Time : 0**

Correct Marks : 5 Wrong Marks : 1

Question Key Details :

Key	Value
Comprehension	MCQ

वे नीतियाँ जिनका उद्देश्य सभी नागरिकों को समान सांस्कृतिक मूल्यों एवं मापदंडों को समझ कर ,प्रोत्साहित अथवा बल पूर्वक अपनाने को कहा जाता है

1. बहुवादी
2. राष्ट्रवादी
3. समावेशीवादी
4. विविधतावादी

Options :

485584135145. 1
485584135146. 2
485584135147. 3
485584135148. 4

Question Number : 473 Question Id : 48558433788 Question Type : MCQ Option Shuffling : No Is Question Mandatory : No Calculator : None Response Time : N.A Think Time : N.A Minimum Instruction Time : 0

Correct Marks : 5 Wrong Marks : 1

Question Key Details :

Key	Value
Comprehension	MCQ

According to western context, what does secularism actually denote?

1. Religious Chauvinism
2. Separation of religious and political authority
3. All religions are same and must
4. Keeping away the hostility between religions

Options :

485584135149. 1

485584135150. 2

485584135151. 3

485584135152. 4

Question Number : 473 Question Id : 48558433788 Question Type : MCQ Option Shuffling : No Is Question Mandatory : No Calculator : None Response Time : N.A Think Time : N.A Minimum Instruction Time : 0

Correct Marks : 5 Wrong Marks : 1

Question Key Details :

Key	Value
Comprehension	MCQ

पश्चिमी संदर्भ में धर्मनिरपेक्षता का वास्तविक क्या तात्पर्य है?

1. धार्मिक उन्मादता
2. धार्मिक एवं राजनीतिक प्राधिकारों को अलग-अलग करना
3. सभी धर्म समान एवं आवश्यक हैं
4. धर्मों के मध्य शत्रुता को दूर रखना

Options :

485584135149. 1

485584135150. 2

485584135151. 3

485584135152. 4

Question Number : 474 Question Id : 48558433789 Question Type : MCQ Option Shuffling : No Is Question Mandatory : No Calculator : None Response Time : N.A Think Time : N.A Minimum Instruction Time : 0

Correct Marks : 5 Wrong Marks : 1

Question Key Details :

Key	Value
Comprehension	MCQ

Who argued that the nature of urban impact varies according to the kind relation a village has with a city or town?

1. M.S.A. Rao
2. Emile Durkheim
3. M.N. Srinivas
4. Louis Wirth

Options :

485584135153. 1
485584135154. 2
485584135155. 3
485584135156. 4

Question Number : 474 Question Id : 48558433789 Question Type : MCQ Option Shuffling : No Is Question Mandatory : No Calculator : None Response Time : N.A Think Time : N.A Minimum Instruction Time : 0

Correct Marks : 5 Wrong Marks : 1

Question Key Details :

Key	Value
Comprehension	MCQ

किसने यह दावा किया कि एक गांव का शहर एवं कस्बे के साथ संबंध के प्रकार के अनुसार शहरी प्रभाव की प्रकृति बदलती है

1. एम. एस. ए. राव
2. इमाइल डखैइम
3. एम.एन श्रीनिवास
4. लुइस विर्थ

Options :

485584135153. 1
485584135154. 2
485584135155. 3
485584135156. 4

Question Number : 475 Question Id : 48558433790 Question Type : MCQ Option Shuffling : No Is Question Mandatory : No Calculator : None Response Time : N.A Think Time : N.A Minimum Instruction Time : 0

Correct Marks : 5 Wrong Marks : 1

Question Key Details :

Key	Value
Comprehension	MCQ

The different ways in which British colonialism lives on in contemporary India:

- A. Learning Indian classical music and dance
- B. Eating using fork and spoon
- C. Wearing skirts and trousers
- D. Online education
- E. Driving on the left side of the road

Choose the correct answer from the options given below:

- 1. B, D, E only
- 2. B, C, E only
- 3. A, B, D only
- 4. A, C, D only

Options :

- 485584135157. 1
- 485584135158. 2
- 485584135159. 3
- 485584135160. 4

Question Number : 475 Question Id : 48558433790 Question Type : MCQ Option Shuffling : No Is Question Mandatory : No Calculator : None Response Time : N.A Think Time : N.A Minimum Instruction Time : 0

Correct Marks : 5 Wrong Marks : 1

Question Key Details :

Key	Value
Comprehension	MCQ

विभिन्न तरीके जिसमे ब्रिटिश उपनिवेशवाद समकालीन भारत में रहता है

- A. भारतीय क्लासिकल संगीत एवं नृत्य सीख कर
- B. काँटा एवं चम्मच से खाना खाना
- C. स्कर्ट्स एवं पाजामों पहन कर
- D. ऑनलाइन शिक्षा
- E. मार्ग के बाँयी तरफ वाहन चलाना

नीचे दिए गए विकल्पों में से सही उत्तर चयन करें :

- 1. केवल B, D, E
- 2. केवल B, C, E
- 3. केवल A, B, D
- 4. केवल A, C, D

Options :

- 485584135157. 1
- 485584135158. 2
- 485584135159. 3
- 485584135160. 4

Question Number : 476 Question Id : 48558433791 Question Type : MCQ Option Shuffling : No Is Question Mandatory : No Calculator : None Response Time : N.A Think Time : N.A Minimum Instruction Time : 0

Correct Marks : 5 Wrong Marks : 1

Question Key Details :

Key	Value
Comprehension	MCQ

High rates of infant mortality and maternal mortality are the result of which factors?

1. Poverty and development
2. Poverty and illiteracy
3. Life expectancy and poverty
4. Literacy and development

Options :

- 485584135161. 1
- 485584135162. 2
- 485584135163. 3
- 485584135164. 4

Question Number : 476 Question Id : 48558433791 Question Type : MCQ Option Shuffling : No Is Question Mandatory : No Calculator : None Response Time : N.A Think Time : N.A Minimum Instruction Time : 0

Correct Marks : 5 Wrong Marks : 1

Question Key Details :

Key	Value
Comprehension	MCQ

शिशु मृत्यु एवं मातृमृत्यु की उच्च दरें किन कारकों के परिणाम हैं?

1. गरीबी एवं विकास
2. गरीबी एवं निरक्षरता
3. जीवन प्रत्याशा एवं गरीबी
4. साक्षरता एवं विकास

Options :

- 485584135161. 1
- 485584135162. 2
- 485584135163. 3
- 485584135164. 4

Question Number : 477 Question Id : 48558433792 Question Type : MCQ Option Shuffling : No Is Question Mandatory : No Calculator : None Response Time : N.A Think Time : N.A Minimum Instruction Time : 0

Correct Marks : 5 Wrong Marks : 1

Question Key Details :

Key	Value
Comprehension	MCQ

The NGO, Mahila Samakhya, adopted an innovative method to communicate about the Panchayat Raj system to the women in villages.

1. Documentary
2. Speech
3. Phad
4. Focus group discussion

Options :

485584135165. 1
485584135166. 2
485584135167. 3
485584135168. 4

Question Number : 477 Question Id : 48558433792 Question Type : MCQ Option Shuffling : No Is Question Mandatory : No Calculator : None Response Time : N.A Think Time : N.A Minimum Instruction Time : 0

Correct Marks : 5 Wrong Marks : 1

Question Key Details :

Key	Value
Comprehension	MCQ

महिला समाख्य, एक एन. जी .ओ. ने ग्रामीण महिलाओं को पंचायत राज प्रणाली के बारे में संप्रेषित करने हेतु नावोन्मेशी पद्धति अंगीकार की

1. दस्तावेजी
2. भाषण
3. फड़
4. समूह चर्चा पर विशेष जोर देना

Options :

485584135165. 1
485584135166. 2
485584135167. 3
485584135168. 4

Question Number : 478 Question Id : 48558433793 Question Type : MCQ Option Shuffling : No Is Question Mandatory : No Calculator : None Response Time : N.A Think Time : N.A Minimum Instruction Time : 0

Correct Marks : 5 Wrong Marks : 1

Question Key Details :

Key	Value
Comprehension	MCQ

India has which kind of democracy?

1. Direct democracy
2. Representative democracy
3. Indirect democracy
4. Non-representative democracy

Options :

485584135169. 1
485584135170. 2
485584135171. 3
485584135172. 4

Question Number : 478 Question Id : 48558433793 Question Type : MCQ Option Shuffling : No Is Question Mandatory : No Calculator : None Response Time : N.A Think Time : N.A Minimum Instruction Time : 0

Correct Marks : 5 Wrong Marks : 1

Question Key Details :

Key	Value
Comprehension	MCQ

भारत में किस प्रकार का प्रजातंत्र है ?

1. प्रत्यक्ष प्रजातंत्र
2. प्रतिनिधित्व प्रजातंत्र
3. अप्रत्यक्ष प्रजातंत्र
4. गैर-प्रतिनिधित्व प्रजातंत्र

Options :

485584135169. 1
485584135170. 2
485584135171. 3
485584135172. 4

Question Number : 479 Question Id : 48558433794 Question Type : MCQ Option Shuffling : No Is Question Mandatory : No Calculator : None Response Time : N.A Think Time : N.A Minimum Instruction Time : 0

Correct Marks : 5 Wrong Marks : 1

Question Key Details :

Key	Value
Comprehension	MCQ

Opinions that are not fact based can be understood as

1. Prejudice
2. Untouchability
3. Inclusion
4. Exclusion

Options :

485584135173. 1
485584135174. 2
485584135175. 3
485584135176. 4

Question Number : 479 Question Id : 48558433794 Question Type : MCQ Option Shuffling : No Is Question Mandatory : No Calculator : None Response Time : N.A Think Time : N.A Minimum Instruction Time : 0

Correct Marks : 5 Wrong Marks : 1

Question Key Details :

Key	Value
Comprehension	MCQ

वे राय जो तथ्य आधारित नहीं होते है उन्हें

1. पूर्वधारणा
2. अधूत
3. समादेशन
4. अपवर्जन

Options :

485584135173. 1
485584135174. 2
485584135175. 3
485584135176. 4

Question Number : 480 Question Id : 48558433795 Question Type : MCQ Option Shuffling : No Is Question Mandatory : No Calculator : None Response Time : N.A Think Time : N.A Minimum Instruction Time : 0

Correct Marks : 5 Wrong Marks : 1

Question Key Details :

Key	Value
Comprehension	MCQ

Match the newspapers in List I with the language in List II

LIST I		LIST II	
A.	Kesari	I.	Malayali
B.	Mathrubhumi	II.	Hindi
C.	Sambad-Kaumudi	III.	Bengali
D.	Amar Ujala	IV.	Marathi

Choose the correct answer from the options given below:

1. A-I, B-II, C-III, D-IV
2. A-IV, B-I, C-III, D-II
3. A-IV, B-II, C-I, D-III
4. A-IV, B-II, C-III, D-I

Options :

485584135177. 1
485584135178. 2
485584135179. 3
485584135180. 4

Question Number : 480 Question Id : 48558433795 Question Type : MCQ Option Shuffling : No Is Question Mandatory : No Calculator : None Response Time : N.A Think Time : N.A Minimum Instruction Time : 0

Correct Marks : 5 Wrong Marks : 1

Question Key Details :

Key	Value
Comprehension	MCQ

समाचार पत्रों सूची I का उनकी भाषा सूची II से मिलान करें :

LIST I		LIST II	
A.	केसरी	I.	मलयाली
B.	मातृभूमि	II.	हिन्दी
C.	संवाद-कौमुदी	III.	बंगाली
D.	अमर उजाला	IV.	मराठी

नीचे दिए गए विकल्पों में से सही उत्तर का चयन करें :

1. A-I, B-II, C-III, D-IV
2. A-IV, B-I, C-III, D-II
3. A-IV, B-II, C-I, D-III
4. A-IV, B-II, C-III, D-I

Options :

485584135177. 1

485584135178. 2
485584135179. 3
485584135180. 4

Question Number : 481 Question Id : 48558433796 Question Type : MCQ Option Shuffling : No Is Question Mandatory : No Calculator : None Response Time : N.A Think Time : N.A Minimum Instruction Time : 0

Correct Marks : 5 Wrong Marks : 1

Question Key Details :

Key	Value
Comprehension	MCQ

Why is Demographic Dividend considered temporary?

1. Larger pool of working age people will gradually turn into non-working old age group
2. Larger pool of non-working people will eventually turn into working people
3. Eventually the number of non-working people will be equal to that of working people
4. Larger pool of non-working people will be employed due to Government policies

Options :

485584135181. 1
485584135182. 2
485584135183. 3
485584135184. 4

Question Number : 481 Question Id : 48558433796 Question Type : MCQ Option Shuffling : No Is Question Mandatory : No Calculator : None Response Time : N.A Think Time : N.A Minimum Instruction Time : 0

Correct Marks : 5 Wrong Marks : 1

Question Key Details :

Key	Value
Comprehension	MCQ

क्यों जनसंख्या विषयक लाभांश को अस्थायी माना जाता है?

1. बहुत संख्या के कार्यशील आयु के व्यक्ति धीरे-धीरे गैर-कार्यशील आयु में आ जायेंगे।
2. बहुत संख्या के गैर-कार्यशील व्यक्ति परिणामतः कार्यशील व्यक्ति में परिवर्तित हो जायेंगे।
3. स्पष्टतया गैर-कार्यशील व्यक्तियों की संख्या, कार्यशील व्यक्तियों के बराबर हो जायेगी।
4. सरलकारी नीतियों से भुत से गिटर-कार्यशील व्यक्तियों को रोजगार मिल जाएगा।

Options :

485584135181. 1
485584135182. 2
485584135183. 3
485584135184. 4

Question Number : 482 Question Id : 48558433797 Question Type : MCQ Option Shuffling : No Is Question Mandatory : No Calculator : None Response Time : N.A Think Time : N.A Minimum Instruction Time : 0

Correct Marks : 5 Wrong Marks : 1

Question Key Details :

Key	Value
Comprehension	MCQ

Identify the three villages that were initially brought together to establish the trading post on river Hooghly by the English in 17th century.

1. Kolikata, Maidan, Fort William
2. Sutanuti, Gobindapur, Fort William
3. Sutanuti, Kolikata, Fort William
4. Kolikata, Sutanuti, Gobindapur

Options :

485584135185. 1
485584135186. 2
485584135187. 3
485584135188. 4

Question Number : 482 Question Id : 48558433797 Question Type : MCQ Option Shuffling : No Is Question Mandatory : No Calculator : None Response Time : N.A Think Time : N.A Minimum Instruction Time : 0

Correct Marks : 5 Wrong Marks : 1

Question Key Details :

Key	Value
Comprehension	MCQ

उन तीन गाँवों की पहचान करें जिन्हें अंग्रेजों ने 17वीं शताब्दी में हुगली नदी के किनारे प्रारम्भतः व्यापार स्थल स्थापित करने हेतु एक साथ लिया गया?

1. कोलिकाटा, मैदान, फोर्ट विलियम
2. सुटानुटी, गोविन्दपुर, फोर्ट विलियम
3. सुटानुटी, कोलिकाटा, फोर्ट विलियम
4. कोलिकाटा, सुटानुटी, गोविन्दपुर

Options :

485584135185. 1
485584135186. 2
485584135187. 3
485584135188. 4

Question Number : 483 Question Id : 48558433798 Question Type : MCQ Option Shuffling : No Is Question Mandatory : No Calculator : None Response Time : N.A Think Time : N.A Minimum Instruction Time : 0

Correct Marks : 5 Wrong Marks : 1

Question Key Details :

Key	Value
Comprehension	MCQ

Who believed that famines are the result of "failure of entitlements"?

1. Karl Marx
2. Amartya Sen
3. Malthus
4. Emile Durkheim

Options :

485584135189. 1
485584135190. 2
485584135191. 3
485584135192. 4

Question Number : 483 Question Id : 48558433798 Question Type : MCQ Option Shuffling : No Is Question Mandatory : No Calculator : None Response Time : N.A Think Time : N.A Minimum Instruction Time : 0

Correct Marks : 5 Wrong Marks : 1

Question Key Details :

Key	Value
Comprehension	MCQ

यह किसका विश्वास था कि अकाल पड़ता "पात्रताओं की असफलता" का परिणाम है?

1. कार्ल मार्क्स
2. अमर्त्य सेन
3. मालथस
4. इमाइल डुखेइम

Options :

485584135189. 1
485584135190. 2
485584135191. 3
485584135192. 4

Question Number : 484 Question Id : 48558433799 Question Type : MCQ Option Shuffling : No Is Question Mandatory : No Calculator : None Response Time : N.A Think Time : N.A Minimum Instruction Time : 0

Correct Marks : 5 Wrong Marks : 1

Question Key Details :

Key	Value
Comprehension	MCQ

When did Right to Information Act came into force?

1. October 13, 2005
2. October 13, 2006
3. June 15, 2005
4. June 15, 2006

Options :

485584135193. 1
485584135194. 2
485584135195. 3
485584135196. 4

Question Number : 484 Question Id : 48558433799 Question Type : MCQ Option Shuffling : No Is Question Mandatory : No Calculator : None Response Time : N.A Think Time : N.A Minimum Instruction Time : 0

Correct Marks : 5 Wrong Marks : 1

Question Key Details :

Key	Value
Comprehension	MCQ

सूचना का अधिकार कब से प्रभावी हुआ ?

1. अक्टूबर 13, 2005
2. अक्टूबर 13, 2006
3. जून 15, 2005
4. जून 15, 2006

Options :

485584135193. 1
485584135194. 2
485584135195. 3
485584135196. 4

Question Number : 485 Question Id : 48558433800 Question Type : MCQ Option Shuffling : No Is Question Mandatory : No Calculator : None Response Time : N.A Think Time : N.A Minimum Instruction Time : 0

Correct Marks : 5 Wrong Marks : 1

Question Key Details :

Key	Value
Comprehension	MCQ

Identify the key characteristic of social stratification from the list given below:

- A. It is social and not individual in character
- B. Social stratification persists through ideologies and practices
- C. It persists over generations
- D. It is natural
- E. It is not natural

Choose the correct answer from the options given below:

- 1. A, B, C only
- 2. B, C, E only
- 3. D, C, E only
- 4. A, D, E only

Options :

- 485584135197. 1
- 485584135198. 2
- 485584135199. 3
- 485584135200. 4

Question Number : 485 Question Id : 48558433800 Question Type : MCQ Option Shuffling : No Is Question Mandatory : No Calculator : None Response Time : N.A Think Time : N.A Minimum Instruction Time : 0

Correct Marks : 5 Wrong Marks : 1

Question Key Details :

Key	Value
Comprehension	MCQ

निम्नलिखित में से सामाजिक स्तर विन्यास की मुख्य विशेषता की पहचान करें:

- A. यह समाजी है एवं व्यक्तिगत तक्षण नहीं है
- B. यह पीढ़ियों तक निरंतर रहता है
- C. यह प्राकृतिक हैं
- D. यह सर्वव्यापी नहीं हैं

नीचे दिए गए विकल्पों में से सही उत्तर का चयन करें :

- 1. केवल A, B, C
- 2. केवल B, C, E
- 3. केवल D, C, E
- 4. केवल A, D, E

Options :

- 485584135197. 1
- 485584135198. 2
- 485584135199. 3
- 485584135200. 4

Question Number : 486 Question Id : 48558433801 Question Type : MCQ Option Shuffling : No Is Question Mandatory : No Calculator : None Response Time : N.A Think Time : N.A Minimum Instruction Time : 0

Correct Marks : 5 Wrong Marks : 1

Question Key Details :

Key	Value
Comprehension	MCQ

What does population pyramid show?

1. Age, Birth rate, Growth
2. Age, Gender, Growth
3. Age, Birth rate, Life expectancy
4. Birth rate, Gender, Life expectancy

Options :

485584135201. 1
485584135202. 2
485584135203. 3
485584135204. 4

Question Number : 486 Question Id : 48558433801 Question Type : MCQ Option Shuffling : No Is Question Mandatory : No Calculator : None Response Time : N.A Think Time : N.A Minimum Instruction Time : 0

Correct Marks : 5 Wrong Marks : 1

Question Key Details :

Key	Value
Comprehension	MCQ

जनसँख्या पिरामिड क्या प्रदर्शित करता है?

1. आयु, जन्म दर, वृद्धि
2. आयु, लिंग, वृद्धि
3. आयु, जन्म दर, जीवंतता
4. जन्म दर, लिंग, जीवंतता

Options :

485584135201. 1
485584135202. 2
485584135203. 3
485584135204. 4

Question Number : 487 Question Id : 48558433802 Question Type : MCQ Option Shuffling : No Is Question Mandatory : No Calculator : None Response Time : N.A Think Time : N.A Minimum Instruction Time : 0

Correct Marks : 5 Wrong Marks : 1

Question Key Details :

Key	Value
Comprehension	MCQ

Match the books in List I with the authors in List II

LIST I		LIST II	
A.	Stree Purush Tulana	I.	Daya Pawar
B.	The city	II.	Begum Rokeya
C.	Analogy of Religion	III.	Tarabai Shinde
D.	Sultana's Dream	IV.	Bishop Joseph Butler

Choose the correct answer from the options given below:

1. A-I, B-II, C-III, D-IV
2. A-IV, B-I, C-III, D-II
3. A-III, B-I, C-IV, D-II
4. A-IV, B-II, C-III, D-I

Options :

485584135205. 1
485584135206. 2
485584135207. 3
485584135208. 4

Question Number : 487 Question Id : 48558433802 Question Type : MCQ Option Shuffling : No Is Question Mandatory : No Calculator : None Response Time : N.A Think Time : N.A Minimum Instruction Time : 0

Correct Marks : 5 Wrong Marks : 1

Question Key Details :

Key	Value
Comprehension	MCQ

सूची I का सूची II से मिलान कीजिए

सूची I (पुस्तकें)		सूची II (लेखक)	
A.	स्त्री पुरुष तुलना	I.	दया पवार
B.	दी सिटी	II.	बेगम रोकेया
C.	अनालॉजी ऑफ रिलीजन	III.	ताराबाई शिंदे
D.	सुल्तांस ड्रीम	IV.	विशप जोसेफ बटलर

नीचे दिए गए विकल्पों में से सही उत्तर का चयन कीजिए :

1. A-I, B-II, C-III, D-IV
2. A-IV, B-I, C-III, D-II
3. A-III, B-I, C-IV, D-II
4. A-IV, B-II, C-III, D-I

Options :

485584135205. 1
485584135206. 2
485584135207. 3
485584135208. 4

Question Number : 488 Question Id : 48558433803 Question Type : MCQ Option Shuffling : No Is Question Mandatory : No Calculator : None Response Time : N.A Think Time : N.A Minimum Instruction Time : 0

Correct Marks : 5 Wrong Marks : 1

Question Key Details :

Key	Value
Comprehension	MCQ

The working age group considered for measuring dependency ratio is:

1. 15-64 years
2. 16-64 years
3. 18-70 years
4. 20-50 years

Options :

485584135209. 1
485584135210. 2
485584135211. 3
485584135212. 4

Question Number : 488 Question Id : 48558433803 Question Type : MCQ Option Shuffling : No Is Question Mandatory : No Calculator : None Response Time : N.A Think Time : N.A Minimum Instruction Time : 0

Correct Marks : 5 Wrong Marks : 1

Question Key Details :

Key	Value
Comprehension	MCQ

निर्भरता अनुपात के मापन हेतु कार्यशील आयु समूह के विचारार्थ:

1. 15-64 वर्ष
2. 16-64 वर्ष
3. 18-70 वर्ष
4. 20-50 वर्ष

Options :

485584135209. 1
485584135210. 2
485584135211. 3
485584135212. 4

Question Number : 489 Question Id : 48558433804 Question Type : MCQ Option Shuffling : No Is Question Mandatory : No Calculator : None Response Time : N.A Think Time : N.A Minimum Instruction Time : 0

Correct Marks : 5 Wrong Marks : 1

Question Key Details :

Key	Value
Comprehension	MCQ

In Madhopur village, 77 out of 298 households work and live in the cities of Bombay and Calcutta. What does the example reflect?

1. Industrialisation
2. Urbanisation
3. Migration
4. Ghettoization

Options :

485584135213. 1
485584135214. 2
485584135215. 3
485584135216. 4

Question Number : 489 Question Id : 48558433804 Question Type : MCQ Option Shuffling : No Is Question Mandatory : No Calculator : None Response Time : N.A Think Time : N.A Minimum Instruction Time : 0

Correct Marks : 5 Wrong Marks : 1

Question Key Details :

Key	Value
Comprehension	MCQ

माधोपुर गांव के 298 में से 77 परिवार बम्बई एवं कलकत्ता में कार्य करते हैं और रहते हैं। यह उदहारण क्या प्रकाश डालता है

1. औद्योगीकरण
2. शहरीकरण
3. देशांतरण
4. अल्पसंख्यक समूह का झुग्गी-झोपडीकरण

Options :

485584135213. 1
485584135214. 2
485584135215. 3
485584135216. 4

Question Number : 490 Question Id : 48558433805 Question Type : MCQ Option Shuffling : No Is Question Mandatory : No Calculator : None Response Time : N.A Think Time : N.A Minimum Instruction Time : 0

Correct Marks : 5 Wrong Marks : 1

Question Key Details :

Key	Value
Comprehension	MCQ

Common features of caste system include

- A. equalities within the same caste members
- B. social mobility
- C. occupational link
- D. subdivisions
- E. hierarchical arrangements

Choose the correct answer from the options given below:

1. A, B, C, D only
2. A, B, D, E only
3. B, C, D, E only
4. A, C, D, E only

Options :

- 485584135217. 1
- 485584135218. 2
- 485584135219. 3
- 485584135220. 4

Question Number : 490 Question Id : 48558433805 Question Type : MCQ Option Shuffling : No Is Question Mandatory : No Calculator : None Response Time : N.A Think Time : N.A Minimum Instruction Time : 0

Correct Marks : 5 Wrong Marks : 1

Question Key Details :

Key	Value
Comprehension	MCQ

जाति प्रथा में समान रूपरेखाओं में शामिल हैं

- A. समान जाति सदस्यों के मध्य समानताएं
- B. सामाजिक गतिशीलता
- C. व्यावसायिक तालमेल
- D. प्रविभाजन
- E. श्रेणीबद्ध व्यवस्थाएं

नीचे दिए गए विकल्पों में से सही उत्तर का चयन कीजिए:

1. केवल A, B, C, D
2. केवल A, B, D, E
3. केवल B, C, D, E
4. केवल A, C, D, E

Options :

- 485584135217. 1
- 485584135218. 2
- 485584135219. 3
- 485584135220. 4

Question Number : 491 Question Id : 48558433806 Question Type : MCQ Option Shuffling : No Is Question Mandatory : No Calculator : None Response Time : N.A Think Time : N.A Minimum Instruction Time : 0 Correct Marks : 5 Wrong Marks : 1

Question Key Details :

Key	Value
Comprehension	MCQ

Match the concept in List I with the example in List II

LIST I Concept		LIST II Example	
A.	Weekly market	I.	Use of branded cars
B.	Status symbol	II.	BPO
C.	Commodification	III.	Dhorai
D.	Globalisation	IV.	Sale of kidney to rich patients

Choose the correct answer from the options given below:

1. A-III, B-II, C-I, D-IV
2. A-III, B-IV, C-II, D-I
3. A-III, B-I, C-IV, D-II
4. A-II, B-I, C-III, D-IV

Options :

- 485584135221. 1
- 485584135222. 2
- 485584135223. 3
- 485584135224. 4

Question Number : 491 Question Id : 48558433806 Question Type : MCQ Option Shuffling : No Is Question Mandatory : No Calculator : None Response Time : N.A Think Time : N.A Minimum Instruction Time : 0

Correct Marks : 5 Wrong Marks : 1

Question Key Details :

Key	Value
Comprehension	MCQ

सूची I में दिए गए अवधारणाओं का सूची II में दिए गए उदाहरणों से मिलान कीजिए।

सूची I अवधारणा		सूची II उदाहरण	
A.	साप्ताहिक बाजार	I.	ब्रेडेड कारों का उपयोग
B.	प्रतिष्ठा प्रतीक	II.	बी पी ओ
C.	कमोडिटीज	III.	धोराई
D.	वैश्वीकरण	IV.	धनाढ्य रोगियों को किडनी बेचना

नीचे दिए गए विकल्पों में से सही उत्तर का चयन कीजिए:

1. A-III, B-II, C-I, D-IV
2. A-III, B-IV, C-II, D-I
3. A-III, B-I, C-IV, D-II
4. A-II, B-I, C-III, D-IV

Options :

485584135221. 1
485584135222. 2
485584135223. 3
485584135224. 4

Question Number : 492 Question Id : 48558433807 Question Type : MCQ Option Shuffling : No Is Question Mandatory : No Calculator : None Response Time : N.A Think Time : N.A Minimum Instruction Time : 0

Correct Marks : 5 Wrong Marks : 1

Question Key Details :

Key	Value
Comprehension	MCQ

Arrange the states having lowest to highest child sex-ratio as per 2011 Census:

- A. Himachal Pradesh
- B. Kerala
- C. Bihar
- D. Haryana
- E. Rajasthan

Choose the correct answer from the options given below:

1. D, E, A, C, B
2. C, D, A, B, E
3. B, A, D, E, C
4. C, A, D, E, B

Options :

485584135225. 1
485584135226. 2
485584135227. 3

Question Number : 492 Question Id : 48558433807 Question Type : MCQ Option Shuffling : No Is Question Mandatory : No Calculator : None Response Time : N.A Think Time : N.A Minimum Instruction Time : 0

Correct Marks : 5 Wrong Marks : 1

Question Key Details :

Key	Value
Comprehension	MCQ

2011 की जनगणना के अनुसार न्यूनतम से उच्च बाल लिंग अनुपात वाले राज्यों को व्यवस्थित करें

- A. हिमाचल प्रदेश
- B. केरल
- C. बिहार
- D. हरियाणा
- E. राजस्थान

नीचे दिए गए विकल्पों में से सही उत्तर का चयन कीजिए:

- 1. D, E, A, C, B
- 2. C, D, A, B, E
- 3. B, A, D, E, C
- 4. C, A, D, E, B

Options :

- 485584135225. 1
- 485584135226. 2
- 485584135227. 3
- 485584135228. 4

Question Number : 493 Question Id : 48558433808 Question Type : MCQ Option Shuffling : No Is Question Mandatory : No Calculator : None Response Time : N.A Think Time : N.A Minimum Instruction Time : 0

Correct Marks : 5 Wrong Marks : 1

Question Key Details :

Key	Value
Comprehension	MCQ

Arrange the following groups in an ascending order in terms of their percentage share in the Bidi industry:

- A. Manufacturer
- B. Worker
- C. Contractor
- D. Distributor

Choose the correct answer from the options given below:

1. A, C, B, D
2. B, C, D, A
3. A, B, C, D
4. B, D, C, A

Options :

- 485584135229. 1
- 485584135230. 2
- 485584135231. 3
- 485584135232. 4

Question Number : 493 Question Id : 48558433808 Question Type : MCQ Option Shuffling : No Is Question Mandatory : No Calculator : None Response Time : N.A Think Time : N.A Minimum Instruction Time : 0

Correct Marks : 5 Wrong Marks : 1

Question Key Details :

Key	Value
Comprehension	MCQ

निम्नलिखित राज्यों को उनकी बीडी अद्योग में प्रतिशत के सन्दर्भ में आरोही क्रम में व्यवस्थित करें

- A. विनिर्माता
- B. श्रमिक
- C. ठेकेदार
- D. वितरक

नीचे दिए गए विकल्पों में से सही उत्तर का चयन कीजिए:

1. A, C, B, D
2. B, C, D, A
3. A, B, C, D
4. B, D, C, A

Options :

- 485584135229. 1
- 485584135230. 2
- 485584135231. 3
- 485584135232. 4

Question Number : 494 Question Id : 48558433809 Question Type : MCQ Option Shuffling : No Is Question Mandatory : No Calculator : None Response Time : N.A Think Time : N.A Minimum Instruction Time : 0

Correct Marks : 5 Wrong Marks : 1

Question Key Details :

Key	Value
Comprehension	MCQ

For migrant workers Jan Breman has used the term:

1. Footloose labour
2. Loose labour
3. Mobile labour
4. Migratory labour

Options :

485584135233. 1
485584135234. 2
485584135235. 3
485584135236. 4

Question Number : 494 Question Id : 48558433809 Question Type : MCQ Option Shuffling : No Is Question Mandatory : No Calculator : None Response Time : N.A Think Time : N.A Minimum Instruction Time : 0

Correct Marks : 5 Wrong Marks : 1

Question Key Details :

Key	Value
Comprehension	MCQ

देशांतर श्रमिकों के लिए जन ब्रेमेन ने इन शब्दों का प्रयोग किया है

1. फूटलूज श्रमिक
2. निर्बंध श्रमिक
3. मोबइल श्रमिक
4. प्रवासी श्रमिक

Options :

485584135233. 1
485584135234. 2
485584135235. 3
485584135236. 4

Question Number : 495 Question Id : 48558433810 Question Type : MCQ Option Shuffling : No Is Question Mandatory : No Calculator : None Response Time : N.A Think Time : N.A Minimum Instruction Time : 0

Correct Marks : 5 Wrong Marks : 1

Question Key Details :

Key	Value
Comprehension	MCQ

Identify the permanent traits of tribes from the list provided below:

- A. Language
- B. Mode of livelihood
- C. Region
- D. Extent of incorporation into Hindu society
- E. Physical characteristics

Choose the correct answer from the options given below:

- 1. A, C, E, only
- 2. B, D, E, only
- 3. A, B, C, only
- 4. B, C, E, only

Options :

- 485584135237. 1
- 485584135238. 2
- 485584135239. 3
- 485584135240. 4

Question Number : 495 Question Id : 48558433810 Question Type : MCQ Option Shuffling : No Is Question Mandatory : No Calculator : None Response Time : N.A Think Time : N.A Minimum Instruction Time : 0

Correct Marks : 5 Wrong Marks : 1

Question Key Details :

Key	Value
Comprehension	MCQ

नीचे दी गई सूची में से जन जातियों के स्थायी विशेषताओं की पहचान करें

- A. भाषा
- B. आजीविका के साधन
- C. क्षेत्र
- D. हिन्दू समाज में समाविष्ट का विस्तार
- E. शारीरिक विशेषताएं

नीचे दिए गए विकल्पों में से सही उत्तर का चयन कीजिए

- 1. केवल A, C, E
- 2. केवल B, D, E
- 3. केवल A, B, C
- 4. केवल B, C, E

Options :

- 485584135237. 1
- 485584135238. 2
- 485584135239. 3
- 485584135240. 4

Question Number : 496 Question Id : 48558433811 Question Type : MCQ Option Shuffling : No Is Question Mandatory : No Calculator : None Response Time : N.A Think Time : N.A Minimum Instruction Time : 0

Correct Marks : 5 Wrong Marks : 1

Question Key Details :

Key	Value
Comprehension	MCQ

Arrange the four-fold division of society into the varna system:

- A. Vaisya
- B. Brahmin
- C. Sudra
- D. Kshatriya

Choose the correct answer from the options given below:

- 1. B, D, A, C
- 2. B, A, C, D
- 3. A, B, C, D
- 4. C, B, D, A

Options :

- 485584135241. 1
- 485584135242. 2
- 485584135243. 3
- 485584135244. 4

Question Number : 496 Question Id : 48558433811 Question Type : MCQ Option Shuffling : No Is Question Mandatory : No Calculator : None Response Time : N.A Think Time : N.A Minimum Instruction Time : 0

Correct Marks : 5 Wrong Marks : 1

Question Key Details :

Key	Value
Comprehension	MCQ

वर्ण प्रणाली में समाज के चार वर्गों को व्यवस्थित करें:

- A. वैश्य
- B. ब्राह्मण
- C. शुद्र
- D. क्षत्रिय

Choose the correct answer from the options given below:

- 1. B, D, A, C
- 2. B, A, C, D
- 3. A, B, C, D
- 4. C, B, D, A

Options :

- 485584135241. 1
- 485584135242. 2
- 485584135243. 3
- 485584135244. 4

Question Number : 497 Question Id : 48558433812 Question Type : MCQ Option Shuffling : No Is Question Mandatory : No Calculator : None Response Time : N.A Think Time : N.A Minimum Instruction Time : 0

Correct Marks : 5 Wrong Marks : 1

Question Key Details :

Key	Value
Comprehension	MCQ

Impact of urbanization on peripheral villages:

- A. People build fashionable houses
- B. Pressure on resources
- C. Conflicts between migrants and villagers
- D. Out migration
- E. Uprooting villagers from their land

Choose the correct answer from the options given below:

- 1. A, C, D, E, only
- 2. A, B, C, D only
- 3. A, B, C, E only
- 4. B, C, D, E only

Options :

- 485584135245. 1
- 485584135246. 2
- 485584135247. 3
- 485584135248. 4

Question Number : 497 Question Id : 48558433812 Question Type : MCQ Option Shuffling : No Is Question Mandatory : No Calculator : None Response Time : N.A Think Time : N.A Minimum Instruction Time : 0

Correct Marks : 5 Wrong Marks : 1

Question Key Details :

Key	Value
Comprehension	MCQ

गावों की परिधि में शहरीकरण का प्रभाव

- A. लोग फैशनप्रिय मकानों का निर्माण करते हैं
- B. संसाधनों पर दबाव
- C. अप्रवासियों एवं गावों वालों के मध्य संघर्ष
- D. बाह्य प्रव्रजन
- E. ग्रामीणों के उनकी भूमि से उखाड़ना

नीचे दिए गए विकल्पों में से सही उत्तर का चयन कीजिए:

- 1. A, C, D, E, केवल
- 2. A, B, C, D केवल
- 3. A, B, C, E केवल
- 4. B, C, D, E केवल

Options :

- 485584135245. 1
- 485584135246. 2
- 485584135247. 3
- 485584135248. 4

Question Number : 498 Question Id : 48558433813 Question Type : MCQ Option Shuffling : No Is Question Mandatory : No Calculator : None Response Time : N.A Think Time : N.A Minimum Instruction Time : 0

Correct Marks : 5 Wrong Marks : 1

Question Key Details :

Key	Value
Comprehension	MCQ

The situation where people do not enjoy work and see it as something they have to do only for livelihood is described as:

- 1. Exploitation
- 2. Alienation
- 3. Marginalization
- 4. Discrimination

Options :

- 485584135249. 1
- 485584135250. 2
- 485584135251. 3
- 485584135252. 4

Question Number : 498 Question Id : 48558433813 Question Type : MCQ Option Shuffling : No Is Question Mandatory : No Calculator : None Response Time : N.A Think Time : N.A Minimum Instruction Time : 0

Correct Marks : 5 Wrong Marks : 1

Question Key Details :

Key	Value
-----	-------

Comprehension	MCQ
---------------	-----

वह स्थिति जहाँ व्यक्ति अपने काम का आनन्द नहीं ले पते हैं कि उन्हें अपनी आजीविका हेतु कुछ तो करना ही है, इसे यह कहते है।

1. शोषण
2. अन्य संक्रामण
3. सिमंतता
4. विभेदीकरण

Options :

485584135249. 1
485584135250. 2
485584135251. 3
485584135252. 4

Question Number : 499 Question Id : 48558433814 Question Type : MCQ Option Shuffling : No Is Question Mandatory : No Calculator : None Response Time : N.A Think Time : N.A Minimum Instruction Time : 0

Correct Marks : 5 Wrong Marks : 1

Question Key Details :

Key	Value
Comprehension	MCQ

From the choices given below choose the scheme associated with providing help to the farmers.

1. Beti bachao, Beti padhao
2. Green revolution
3. Pradhan Mantri Fasal Bima Yojana
4. Land Ceiling Act

Options :

485584135253. 1
485584135254. 2
485584135255. 3
485584135256. 4

Question Number : 499 Question Id : 48558433814 Question Type : MCQ Option Shuffling : No Is Question Mandatory : No Calculator : None Response Time : N.A Think Time : N.A Minimum Instruction Time : 0

Correct Marks : 5 Wrong Marks : 1

Question Key Details :

Key	Value
Comprehension	MCQ

नीचे दिए गए विकल्पों में से कृषकों को सहायता प्रदान करने वाली योजना का चयन करें

1. बेटी बचाओ, बेटी पढ़ाओ
2. हरित क्रांति
3. प्रधानमंत्री फसल बिमा योजना
4. भूमि हदबंदी अधिनियम

Options :

485584135253. 1
485584135254. 2
485584135255. 3
485584135256. 4

Question Number : 500 Question Id : 48558433815 Question Type : MCQ Option Shuffling : No Is Question Mandatory : No Calculator : None Response Time : N.A Think Time : N.A Minimum Instruction Time : 0

Correct Marks : 5 Wrong Marks : 1

Question Key Details :

Key	Value
Comprehension	MCQ

Match the concept in List I with the explanation in List II

LIST I Concept		LIST II Explanation	
A.	Preventive checks	I.	Number of females per 1000 males in a given area at a specified time period
B.	Positive checks	II.	Estimated number of years that an average person is expected to survive
C.	Life expectancy	III.	Voluntary action to reduce population (like postponing marriage)
D.	Sex-ratio	IV.	Involuntary events to reduce population (like famine)

Choose the correct answer from the options given below:

1. A-IV, B-III, C-II, D-I
2. A-III, B-IV, C-II, D-I
3. A-IV, B-II, C-III, D-I
4. A-I, B-II, C-III, D-IV

Options :

485584135257. 1
485584135258. 2
485584135259. 3
485584135260. 4

Question Number : 500 Question Id : 48558433815 Question Type : MCQ Option Shuffling : No Is Question Mandatory : No Calculator : None Response Time : N.A Think Time : N.A Minimum Instruction Time : 0

Correct Marks : 5 Wrong Marks : 1

Question Key Details :

Key	Value
Comprehension	MCQ

सूची I में दिए गई अवधारणाओं का सूची II में दिए गए व्याख्या से मिलान कीजिए।

सूची I अवधारणा		सूची II व्याख्या	
A.	निवारक जाँचे	I.	किसी विशिष्ट समयावधि पर एक निर्धारित इलाके में 1000 पुरुषों में महिलाओं की संख्या
B.	सकारात्मक जाँचे	II.	वर्षों की अनुमानित संख्या जहाँ तक एक औसत व्यक्ति की जीवित रहने की प्रत्याशा होती है
C.	जीवंतता	III.	जनसंख्या को कम करने हेतु करवाई (जैसे विवाहों को विलंबित करना)
D.	लिंग अनुपात	IV.	जनसंख्या को कम करने हेतु अस्वैच्छिक घटनाएँ (जैसे आकाल)

नीचे दिए गए विकल्पों में से सही उत्तर का चयन कीजिए:

1. A-IV, B-III, C-II, D-I
2. A-III, B-IV, C-II, D-I
3. A-IV, B-II, C-III, D-I
4. A-I, B-II, C-III, D-IV

Options :

485584135257. 1
485584135258. 2
485584135259. 3
485584135260. 4

Question Number : 501 Question Id : 48558433816 Question Type : MCQ Option Shuffling : No Is Question Mandatory : No Calculator : None Response Time : N.A Think Time : N.A Minimum Instruction Time : 0

Correct Marks : 5 Wrong Marks : 1

Question Key Details :

Key	Value
Comprehension	MCQ

The work culture where workers work for extended hours beyond the regular time either to complete the project or please the boss is called:

1. Flexi-time
2. Night out
3. Time slavery
4. Work pressure

Options :

485584135261. 1
485584135262. 2
485584135263. 3
485584135264. 4

Question Number : 501 Question Id : 48558433816 Question Type : MCQ Option Shuffling : No Is Question Mandatory : No Calculator : None Response Time : N.A Think Time : N.A Minimum Instruction Time : 0

Correct Marks : 5 Wrong Marks : 1

Question Key Details :

Key	Value
Comprehension	MCQ

वह कार्य संस्कृत जहाँ श्रमिकों को या तो अपने प्रोजेक्ट को पूरा करने अथवा बॉस को खुश करने हेतु अपने नियमित समय से अधिक समय तक कार्य करना पड़ता है

1. फ्लेक्सी टाइम
2. नाईट आउट
3. समय दस्ता
4. कार्य का दबाव

Options :

485584135261. 1
485584135262. 2
485584135263. 3
485584135264. 4

Question Number : 502 Question Id : 48558433817 Question Type : MCQ Option Shuffling : No Is Question Mandatory : No Calculator : None Response Time : N.A Think Time : N.A Minimum Instruction Time : 0

Correct Marks : 5 Wrong Marks : 1

Question Key Details :

Key	Value
Comprehension	MCQ

Recent developments in Varanasi and its promotion in media made the city an attractive tourist spot. With which theory can this example be associated with?

1. Corporate culture
2. Culture of consumption
3. Globalization of culture
4. Conscious consumption

Options :

485584135265. 1
485584135266. 2
485584135267. 3
485584135268. 4

Question Number : 502 Question Id : 48558433817 Question Type : MCQ Option Shuffling : No Is Question Mandatory : No Calculator : None Response Time : N.A Think Time : N.A Minimum Instruction Time : 0

Correct Marks : 5 Wrong Marks : 1

Question Key Details :

Key	Value
Comprehension	MCQ

वाराणसी में हल ही में हुए विकास और मीडिया में इसका प्रसार ने इस शहर को आकर्षक पर्यटन स्थल बना दिया है

1. कोर्पोरेट संस्कृति
2. उपभोग की संस्कृति
3. संस्कृति का वैश्वीकरण
4. सचेतन उपभोग

Options :

485584135265. 1
485584135266. 2
485584135267. 3
485584135268. 4

Question Number : 503 Question Id : 48558433818 Question Type : MCQ Option Shuffling : No Is Question Mandatory : No Calculator : None Response Time : N.A Think Time : N.A Minimum Instruction Time : 0

Correct Marks : 5 Wrong Marks : 1

Question Key Details :

Key	Value
Comprehension	MCQ

Arrange in a chronological manner from earliest to latest developments:

- A. SRC mandated redrawing of the map of India on linguistic lines
- B. Many feared that states based on language will hasten further division of India
- C. Indian National Congress was constituted on linguistic lines
- D. India became independent but was partitioned along religious lines
- E. Creation of Andhra Pradesh after the death of Potti Sriramulu

Choose the correct answer from the options given below:

1. C, D, B, E, A
2. A, B, D, C, B
3. A, B, D, C, E
4. D, C, B, A, E

Options :

485584135269. 1
485584135270. 2
485584135271. 3
485584135272. 4

Question Number : 503 Question Id : 48558433818 Question Type : MCQ Option Shuffling : No Is Question Mandatory : No Calculator : None Response Time : N.A Think Time : N.A Minimum Instruction Time : 0

Correct Marks : 5 Wrong Marks : 1

Question Key Details :

Key	Value
Comprehension	MCQ

निम्नलिखित को प्रारम्भ से अद्यतन विकासों को कालक्रमानुसार क्रम में लगायें

- A. एस आर सी अधिदेशाधीन भारत के मानचित्र को भाषाई रूपरेखा में पुनः अंकित कर रहा है
- B. बहुत से आशंकित हैं की भाषा आधारित राज्यों के कारन भारत का पुनः विभाजन हो सकता है
- C. भारतीय राष्ट्रिय कांग्रेस का भाषाई रूपरेखा में पुनर्गठन किया गया था
- D. भारत स्वतन्त्र हो गया लेकिन इसका धार्मिक आधारों पर विभाजन हुआ
- E. पोर्टी श्रीरामुलु की मृतु के पश्चात आन्ध्र प्रदेश राज्य बना

नीचे दिए गए विकल्पों में से सही उत्तर का चयन कीजिए:

- 1. C, D, B, E, A
- 2. A, B, D, C, B
- 3. A, B, D, C, E
- 4. D, C, B, A, E

Options :

- 485584135269. 1
- 485584135270. 2
- 485584135271. 3
- 485584135272. 4

Question Number : 504 Question Id : 48558433819 Question Type : MCQ Option Shuffling : No Is Question Mandatory : No Calculator : None Response Time : N.A Think Time : N.A Minimum Instruction Time : 0

Correct Marks : 5 Wrong Marks : 1

Question Key Details :

Key	Value
Comprehension	MCQ

A movement that is aimed in bringing change in the personal consciousness and actions of individual members is called:

- 1. Reformist social movement
- 2. Revolutionary social movement
- 3. Historical social movement
- 4. Redemptive social movement

Options :

- 485584135273. 1
- 485584135274. 2
- 485584135275. 3
- 485584135276. 4

Question Number : 504 Question Id : 48558433819 Question Type : MCQ Option Shuffling : No Is Question Mandatory : No Calculator : None Response Time : N.A Think Time : N.A Minimum Instruction Time : 0

Correct Marks : 5 Wrong Marks : 1

Question Key Details :

Key	Value
Comprehension	MCQ

एक आन्दोलन जिसका व्यक्तिगत संचेतना एवं वैयक्तिक सदस्यों के कार्यों में परिवर्तन लेन का लक्ष्य था

1. सुधारवादी सामाजिक आन्दोलन
2. क्रान्तिकारी सामाजिक आन्दोलन
3. ऐतिहासिक सामाजिक आन्दोलन
4. विमोचक सामाजिक आन्दोलन

Options :

485584135273. 1
485584135274. 2
485584135275. 3
485584135276. 4

Question Number : 505 Question Id : 48558433820 Question Type : MCQ Option Shuffling : No Is Question Mandatory : No Calculator : None Response Time : N.A Think Time : N.A Minimum Instruction Time : 0

Correct Marks : 5 Wrong Marks : 1

Question Key Details :

Key	Value
Comprehension	MCQ

Match the laws in List I with the year adopted in List II

LIST I Laws/Acts		LIST II Year of Adoption/Passing	
A.	Caste Disabilities Removal Act	I.	1989
B.	Constitution Amendment (93rd) Act	II.	1950
C.	(Article 17) Abolishing of Untouchability	III.	1850
D.	Prevention of Atrocities Act	IV.	2006

Choose the correct answer from the options given below:

1. A-I, B-II, C-III, D-IV
2. A-IV, B-III, C-II, D-I
3. A-III, B-IV, C-II, D-I
4. A-IV, B-II, C-I, D-III

Options :

485584135277. 1

485584135278. 2
485584135279. 3
485584135280. 4

Question Number : 505 Question Id : 48558433820 Question Type : MCQ Option Shuffling : No Is Question Mandatory : No Calculator : None Response Time : N.A Think Time : N.A Minimum Instruction Time : 0

Correct Marks : 5 Wrong Marks : 1

Question Key Details :

Key	Value
Comprehension	MCQ

सूची I में दिए गए कानून/अधिनियम का सूची II में दिए गए पारित होने वाले वर्ष से मिलान कीजिए।

LIST I कानून/अधिनियम		LIST II स्वीकार/पारित होने वर्ष	
A.	जाती योगता निवारण अधिनियम	I.	1989
B.	संविधान संसोधन (93वां) अधिनियम	II.	1950
C.	अस्पृश्यता उन्मूलन (अनुच्छेद 17)	III.	1850
D.	अत्याचार की रोकथाम अधिनियम	IV.	2006

नीचे दिए गए विकल्पों में से सही उत्तर का चयन कीजिए:

1. A-I, B-II, C-III, D-IV
2. A-IV, B-III, C-II, D-I
3. A-III, B-IV, C-II, D-I
4. A-IV, B-II, C-I, D-III

Options :

485584135277. 1
485584135278. 2
485584135279. 3
485584135280. 4

Question Number : 506 Question Id : 48558433821 Question Type : MCQ Option Shuffling : No Is Question Mandatory : No Calculator : None Response Time : N.A Think Time : N.A Minimum Instruction Time : 0

Correct Marks : 5 Wrong Marks : 1

Question Key Details :

Key	Value
Comprehension	MCQ

The floods caused by the unusually heavy monsoon in the Alaknanda valley marked a turning point in the ecological history of the region. What is being referred to here?

1. Budhan movement
2. Chipko movement
3. Swacch Bharat Mission
4. Namami Gange Project

Options :

485584135281. 1
485584135282. 2
485584135283. 3
485584135284. 4

Question Number : 506 Question Id : 48558433821 Question Type : MCQ Option Shuffling : No Is Question Mandatory : No Calculator : None Response Time : N.A Think Time : N.A Minimum Instruction Time : 0

Correct Marks : 5 Wrong Marks : 1

Question Key Details :

Key	Value
Comprehension	MCQ

अलाकनाडा घटी में सामान्यतया अत्यधिक वर्ष के कारण क्षेत्र के पारिस्थिक इतिहास में एक निर्णायक मोड़ चिन्हित हुआ यहाँ किस संबंध में संदर्भित है ?

1. भूदान आन्दोलन
2. चिपको आन्दोलन
3. स्वच्छ भारत मिशन
4. नमामि गंगे परियोजना

Options :

485584135281. 1
485584135282. 2
485584135283. 3
485584135284. 4

Question Number : 507 Question Id : 48558433822 Question Type : MCQ Option Shuffling : No Is Question Mandatory : No Calculator : None Response Time : N.A Think Time : N.A Minimum Instruction Time : 0

Correct Marks : 5 Wrong Marks : 1

Question Key Details :

Key	Value
Comprehension	MCQ

Who is associated with the anti-caste movement in 19th century?

1. Mahatma Gandhi
2. Jyotiba Phule
3. Raja Rammohan Roy
4. Birsa Munda

Options :

485584135285. 1
485584135286. 2
485584135287. 3
485584135288. 4

Question Number : 507 Question Id : 48558433822 Question Type : MCQ Option Shuffling : No Is Question Mandatory : No Calculator : None Response Time : N.A Think Time : N.A Minimum Instruction Time : 0

Correct Marks : 5 Wrong Marks : 1

Question Key Details :

Key	Value
Comprehension	MCQ

19 वीं शताब्दी में जाती के विरोध से कौन संबद्ध है

1. महात्मा गाँधी
2. ज्योतिबा फुले
3. राजाराममोहन रे
4. बिरसा मुंडा

Options :

485584135285. 1
485584135286. 2
485584135287. 3
485584135288. 4

Question Number : 508 Question Id : 48558433823 Question Type : MCQ Option Shuffling : No Is Question Mandatory : No Calculator : None Response Time : N.A Think Time : N.A Minimum Instruction Time : 0

Correct Marks : 5 Wrong Marks : 1

Question Key Details :

Key	Value
Comprehension	MCQ

Arrange the following newspapers in order of their year of publication from the earliest to the latest.

- A. The Madras Mail
- B. The Statesman
- C. The Times of India
- D. The Pioneer
- E. The Civil and Military Gazettee

Choose the correct answer from the options given below:

- 1. C, D, A, B, E
- 2. B, D, C, A, E
- 3. A, B, E, D, C
- 4. A, C, B, E, D

Options :

- 485584135289. 1
- 485584135290. 2
- 485584135291. 3
- 485584135292. 4

Question Number : 508 Question Id : 48558433823 Question Type : MCQ Option Shuffling : No Is Question Mandatory : No Calculator : None Response Time : N.A Think Time : N.A Minimum Instruction Time : 0

Correct Marks : 5 Wrong Marks : 1

Question Key Details :

Key	Value
Comprehension	MCQ

निम्नलिखित समाचार-पत्रों को उनके पहले से अद्यतन तक प्रकाशित होने वाले वर्ष के अनुसार व्यवस्थित करें

- A. दि मद्रास मेल
- B. दि स्टेट्समैन
- C. दि टाइम्स ऑफ इंडिया
- D. दि पायनियर
- E. दि सिविल एंड मिलिट्री गजट

Choose the correct answer from the options given below:

- 1. C, D, A, B, E
- 2. B, D, C, A, E
- 3. A, B, E, D, C
- 4. A, C, B, E, D

Options :

- 485584135289. 1
- 485584135290. 2
- 485584135291. 3
- 485584135292. 4

Question Number : 509 Question Id : 48558433824 Question Type : MCQ Option Shuffling : No Is Question Mandatory : No Calculator : None Response Time : N.A Think Time : N.A Minimum Instruction Time : 0

Correct Marks : 5 Wrong Marks : 1

Question Key Details :

Key	Value
Comprehension	MCQ

One of the key issues that bind the tribal movement across India.

1. Over exploitation
2. Language
3. Alienation from forest lands
4. Ethnicity

Options :

485584135293. 1
485584135294. 2
485584135295. 3
485584135296. 4

Question Number : 509 Question Id : 48558433824 Question Type : MCQ Option Shuffling : No Is Question Mandatory : No Calculator : None Response Time : N.A Think Time : N.A Minimum Instruction Time : 0

Correct Marks : 5 Wrong Marks : 1

Question Key Details :

Key	Value
Comprehension	MCQ

समस्त भारत में जनजातीय आंदोलनों को बांधने के प्रमुख एक कारण

1. अति शोषण
2. भाषा
3. वैतन भूमियों से अन्य सन्क्रमण
4. नैतिकता

Options :

485584135293. 1
485584135294. 2
485584135295. 3
485584135296. 4

Question Number : 510 Question Id : 48558433825 Question Type : MCQ Option Shuffling : No Is Question Mandatory : No Calculator : None Response Time : N.A Think Time : N.A Minimum Instruction Time : 0

Correct Marks : 5 Wrong Marks : 1

Question Key Details :

Key	Value
Comprehension	MCQ

What was the common demand among the jute workers of Kolkata, cotton mill workers of Buckingham and Ahmedabad?

1. Better working conditions
2. 25% increase of wages
3. 50% increase of wages
4. Less working hours

Options :

485584135297. 1
485584135298. 2
485584135299. 3
485584135300. 4

Question Number : 510 Question Id : 48558433825 Question Type : MCQ Option Shuffling : No Is Question Mandatory : No Calculator : None Response Time : N.A Think Time : N.A Minimum Instruction Time : 0

Correct Marks : 5 Wrong Marks : 1

Question Key Details :

Key	Value
Comprehension	MCQ

कोलकत्ता के जूट श्रमिकों, बर्किंगहम एवं अहमदाबाद के कपास मिल श्रमिकों की समान मांग क्या थी?

1. बेहतर कार्यपरक स्थितियाँ
2. मजदूरी में 25% वृद्धि
3. मजदूरी में 50% वृद्धि
4. कार्य के कम घंटे

Options :

485584135297. 1
485584135298. 2
485584135299. 3
485584135300. 4

Sub-Section Number : 2
Sub-Section Id : 4855842446
Question Shuffling Allowed : No
Is Section Default? : null

Question Number : 511 Question Id : 48558433826 Question Type : MCQ Option Shuffling : No Is Question Mandatory : No Calculator : None Response Time : N.A Think Time : N.A Minimum Instruction Time : 0

Correct Marks : 5 Wrong Marks : 1

Question Key Details :

Key	Value
Comprehension	Comp1

Read the passage and answer the questions:

Regionalism in India is rooted in India's diversity of languages, cultures, tribes and religions. It is also encouraged by the geographical concentration of these identity workers in particular regions and fuelled by a sense of regional deprivation. Indian federalism has been a means of accommodating these regional sentiments.

After independence, initially the Indian state continued with the British-Indian arrangement, dividing India into large provinces, also called 'Presidencies'. These were large multi-ethnic and multilingual provincial states constituting the major political-administrative units of a semi-federal state called the Union of India. Languages coupled with regional and tribal identity and not religion has therefore provided the most powerful instrument for the formation of ethno-rational identity in India.

The three major factors for the formation of ethno-rational identity in India are:

1. Linguistic, tribal and religious identity
2. Linguistic, caste and tribal identity
3. Regional, linguistic and tribal identity
4. Religious, linguistic and caste identity

Options :

485584135301. 1
485584135302. 2
485584135303. 3
485584135304. 4

Question Number : 511 Question Id : 48558433826 Question Type : MCQ Option Shuffling : No Is Question Mandatory : No Calculator : None Response Time : N.A Think Time : N.A Minimum Instruction Time : 0

Correct Marks : 5 Wrong Marks : 1

Question Key Details :

Key	Value
Comprehension	Comp1

भारत में आंचलिकता भारत की भाषाओं, संस्कृतियों जनजातियों एवं धर्मों की विविधता की जड़ों तक फैली है। यह विशिष्ट अंचलों में इन श्रमिकों की पहचान के भौगोलिक संकेन्द्रण के द्वारा भी प्रोत्साहित किया गया है और इसे आंचलिक वंचित के भाव से भी बढ़ाया गया है, भारतीय संघ शासन इन आंचलिक भावनाओं को समावेश करने का एक साधन है। स्वतंत्रता के पश्चात प्रारम्भ में भारतीय राज्य ब्रिटिश-भारतीय व्यवस्थाओं, भारत को बड़े प्रदेशों में विभक्त करने जिन्हें प्रेसिडेंसिस भी कहा जाता था, ये अति बहु भाषिकता एवं बहु भाषी प्रांतीय थे जिसमें भारत के संघ के अर्ध संघीय राज्य के प्रमुख राजनीतिक-प्रशासनिक इकाइयों का समावेश था। भाषा के साथ आंचलिकता एवं जनजातीय पहचान-एवं धर्म नहीं ने इस प्रकार भारत में उत्कट राष्ट्रियता के निर्माण हेतु अत्यधिक शक्तिशाली साधन प्रदान किया।

भारत में उत्कट राष्ट्रीयता पहचान के तीन प्रमुख कारक

1. भाषायी, जनजातीय एवं धार्मिक पहचान
2. भाषायी, जाति एवं जनजातीय पहचान
3. आंचलिकता, भाषायी एवं जनजातीय पहचान
4. धार्मिक, भाषायी एवं जाति पहचान

Options :

485584135301. 1
485584135302. 2
485584135303. 3
485584135304. 4

Question Number : 512 Question Id : 48558433827 Question Type : MCQ Option Shuffling : No Is Question Mandatory : No Calculator : None Response Time : N.A Think Time : N.A Minimum Instruction Time : 0

Correct Marks : 5 Wrong Marks : 1

Question Key Details :

Key	Value
Comprehension	Comp1

Read the passage and answer the questions:

Regionalism in India is rooted in India's diversity of languages, cultures, tribes and religions. It is also encouraged by the geographical concentration of these identity workers in particular regions and fuelled by a sense of regional deprivation. Indian federalism has been a means of accommodating these regional sentiments.

After independence, initially the Indian state continued with the British-Indian arrangement, dividing India into large provinces, also called 'Presidencies'. These were large multi-ethnic and multilingual provincial states constituting the major political-administrative units of a semi-federal state called the Union of India. Languages coupled with regional and tribal identity and not religion has therefore provided the most powerful instrument for the formation of ethno-rational identity in India.

Which of the following cultural markers is not responsible for regionalism in India?

1. Tribe
2. Caste
3. Religion
4. Language

Options :

485584135305. 1
485584135306. 2
485584135307. 3
485584135308. 4

Question Number : 512 Question Id : 48558433827 Question Type : MCQ Option Shuffling : No Is Question Mandatory : No Calculator : None Response Time : N.A Think Time : N.A Minimum Instruction Time : 0

Correct Marks : 5 Wrong Marks : 1

Question Key Details :

Key	Value
Comprehension	Comp1

भारत में आंचलिकता भारत की भाषाओं, संस्कृतियों जनजातियों एवं धर्मों की विविधता की जड़ों तक फैली है। यह विशिष्ट अंचलों में इन श्रमिकों की पहचान के भौगोलिक संकेन्द्रण के द्वारा भी प्रोत्साहित किया गया है और इसे आंचलिक वंचित के भाव से भी बढ़ाया गया है, भारतीय संघ शासन इन आंचलिक भावनाओं को समावेश करने का एक साधन है। स्वतंत्रता के पश्चात प्रारम्भ में भारतीय राज्य ब्रिटिश-भारतीय व्यवस्थाओं, भारत को बड़े प्रदेशों में विभक्त करने जिन्हें प्रेसिडेंसिस भी कहा जाता था, ये अति बहु भाषिकता एवं बहु भाषी प्रांतीय थे जिसमें भारत के संघ के अर्ध संघीय राज्य के प्रमुख राजनीतिक-प्रशासनिक इकाइयों का समावेश था। भाषा के साथ आंचलिकता एवं जनजातीय पहचान-एवं धर्म नहीं ने इस प्रकार भारत में उत्कट राष्ट्रीयता के निर्माण हेतु अत्यधिक शक्तिशाली साधन प्रदान किया।

भारत में आंचलिकता हेतु निम्नलिखित में से कौन सांस्कृतिक श्रमिक जिम्मेदार नहीं हैं

1. जनजाति
2. जाति
3. धर्म
4. भाषा

Options :

485584135305. 1
485584135306. 2
485584135307. 3
485584135308. 4

Question Number : 513 Question Id : 48558433828 Question Type : MCQ Option Shuffling : No Is Question Mandatory : No Calculator : None Response Time : N.A Think Time : N.A Minimum Instruction Time : 0

Correct Marks : 5 Wrong Marks : 1

Question Key Details :

Key	Value
Comprehension	Comp1

Read the passage and answer the questions:

Regionalism in India is rooted in India's diversity of languages, cultures, tribes and religions. It is also encouraged by the geographical concentration of these identity workers in particular regions and fuelled by a sense of regional deprivation. Indian federalism has been a means of accommodating these regional sentiments.

After independence, initially the Indian state continued with the British-Indian arrangement, dividing India into large provinces, also called 'Presidencies'. These were large multi-ethnic and multilingual provincial states constituting the major political-administrative units of a semi-federal state called the Union of India. Languages coupled with regional and tribal identity and not religion has therefore provided the most powerful instrument for the formation of ethno-rational identity in India.

During British period, India was divided into large provinces called

1. Principalities
2. State
3. Princely states
4. Presidencies

Options :

485584135309. 1
485584135310. 2
485584135311. 3
485584135312. 4

Question Number : 513 Question Id : 48558433828 Question Type : MCQ Option Shuffling : No Is Question Mandatory : No Calculator : None Response Time : N.A Think Time : N.A Minimum Instruction Time : 0

Correct Marks : 5 Wrong Marks : 1

Question Key Details :

Key	Value
Comprehension	Comp1

भारत में आंचलिकता भारत की भाषाओं, संस्कृतियों जनजातियों एवं धर्मों की विविधता की जड़ों तक फैली है। यह विशिष्ट अंचलों में इन श्रमिकों की पहचान के भौगोलिक संकेन्द्रण के द्वारा भी प्रोत्साहित किया गया है और इसे आंचलिक वंचित के भाव से भी बढ़ाया गया है, भारतीय संघ शासन इन आंचलिक भावनाओं को समावेश करने का एक साधन है। स्वतंत्रता के पश्चात प्रारम्भ में भारतीय राज्य ब्रिटिश-भारतीय व्यवस्थाओं, भारत को बड़े प्रदेशों में विभक्त करने जिन्हें प्रेसिडेंसिस भी कहा जाता था, ये अति बहु भाषिकता एवं बहु भाषी प्रांतीय थे जिसमें भारत के संघ के अर्ध संघीय राज्य के प्रमुख राजनीतिक-प्रशासनिक इकाइयों का समावेश था। भाषा के साथ आंचलिकता एवं जनजातीय पहचान-एवं धर्म नहीं ने इस प्रकार भारत में उत्कट राष्ट्रीयता के निर्माण हेतु अत्यधिक शक्तिशाली साधन प्रदान किया।

ब्रिटिश काल में, भारत किस बड़े प्रान्तों में विभक्त था?

1. प्रिंसपलिटिस राज्य
2. राज्य
3. प्रिंसली राज्य
4. प्रेसीडेंसी

Options :

485584135309. 1
485584135310. 2
485584135311. 3
485584135312. 4

Question Number : 514 Question Id : 48558433829 Question Type : MCQ Option Shuffling : No Is Question Mandatory : No Calculator : None Response Time : N.A Think Time : N.A Minimum Instruction Time : 0

Correct Marks : 5 Wrong Marks : 1

Question Key Details :

Key	Value
Comprehension	Comp1

Read the passage and answer the questions:

Regionalism in India is rooted in India's diversity of languages, cultures, tribes and religions. It is also encouraged by the geographical concentration of these identity workers in particular regions and fuelled by a sense of regional deprivation. Indian federalism has been a means of accommodating these regional sentiments.

After independence, initially the Indian state continued with the British-Indian arrangement, dividing India into large provinces, also called 'Presidencies'. These were large multi-ethnic and multilingual provincial states constituting the major political-administrative units of a semi-federal state called the Union of India. Languages coupled with regional and tribal identity and not religion has therefore provided the most powerful instrument for the formation of ethno-rational identity in India.

The term used for addressing the existence of diversity of languages is

1. Multi-lingual
2. Multicultural
3. Multi-ethnic
4. Mono-lingual

Options :

485584135313. 1
 485584135314. 2
 485584135315. 3
 485584135316. 4

Question Number : 514 Question Id : 48558433829 Question Type : MCQ Option Shuffling : No Is Question Mandatory : No Calculator : None Response Time : N.A Think Time : N.A Minimum Instruction Time : 0

Correct Marks : 5 Wrong Marks : 1

Question Key Details :

Key	Value
Comprehension	Comp1

भारत में आंचलिकता भारत की भाषाओं, संस्कृतियों जनजातियों एवं धर्मों की विविधता की जड़ों तक फैली है। यह विशिष्ट अंचलों में इन श्रमिकों की पहचान के भौगोलिक संकेन्द्रण के द्वारा भी प्रोत्साहित किया गया है और इसे आंचलिक वंचित के भाव से भी बढ़ाया गया है, भारतीय संघ शासन इन आंचलिक भावनाओं को समावेश करने का एक साधन है। स्वतंत्रता के पश्चात प्रारम्भ में भारतीय राज्य ब्रिटिश-भारतीय व्यवस्थाओं, भारत को बड़े प्रदेशों में विभक्त करने जिन्हें प्रेसिडेंसिस भी कहा जाता था, ये अति बहु भाषिकता एवं बहु भाषी प्रांतीय थे जिसमें भारत के संघ के अर्ध संघीय राज्य के प्रमुख राजनीतिक-प्रशासनिक इकाइयों का समावेश था। भाषा के साथ आंचलिकता एवं जनजातीय पहचान-एवं धर्म नहीं ने इस प्रकार भारत में उत्कट राष्ट्रीयता के निर्माण हेतु अत्यधिक शक्तिशाली साधन प्रदान किया।

भाषाओं के विविधता के असित्व को संबोधित करने हेतु प्रयोग किया गया शब्द

1. बहु-भाषायी
2. बहु सांस्कृतिक
3. बहु-नैतिकता
4. मोनो द्विभाषी

Options :

485584135313. 1
485584135314. 2
485584135315. 3
485584135316. 4

Question Number : 515 Question Id : 48558433830 Question Type : MCQ Option Shuffling : No Is Question Mandatory : No Calculator : None Response Time : N.A Think Time : N.A Minimum Instruction Time : 0

Correct Marks : 5 Wrong Marks : 1

Question Key Details :

Key	Value
Comprehension	Compl

Read the passage and answer the questions:

Regionalism in India is rooted in India's diversity of languages, cultures, tribes and religions. It is also encouraged by the geographical concentration of these identity workers in particular regions and fuelled by a sense of regional deprivation. Indian federalism has been a means of accommodating these regional sentiments.

After independence, initially the Indian state continued with the British-Indian arrangement, dividing India into large provinces, also called 'Presidencies'. These were large multi-ethnic and multilingual provincial states constituting the major political-administrative units of a semi-federal state called the Union of India. Languages coupled with regional and tribal identity and not religion has therefore provided the most powerful instrument for the formation of ethno-rational identity in India.

For the growth of regionalism, the prerequisite is

1. Sense of being dominant
2. Sense of deprivation
3. Sense of empowerment
4. Sense of advancement

Options :

485584135317. 1
485584135318. 2
485584135319. 3
485584135320. 4

Question Number : 515 Question Id : 48558433830 Question Type : MCQ Option Shuffling : No Is Question Mandatory : No Calculator : None Response Time : N.A Think Time : N.A Minimum Instruction Time : 0

Correct Marks : 5 Wrong Marks : 1

Question Key Details :

Key	Value
Comprehension	Comp1

भारत में आंचलिकता भारत की भाषाओं, संस्कृतियों जनजातियों एवं धर्मों की विविधता की जड़ों तक फैली है। यह विशिष्ट अंचलों में इन श्रमिकों की पहचान के भौगोलिक संकेन्द्रण के द्वारा भी प्रोत्साहित किया गया है और इसे आंचलिक वंचित के भाव से भी बढ़ाया गया है, भारतीय संघ शासन इन आंचलिक भावनाओं को समावेश करने का एक साधन है। स्वतंत्रता के पश्चात प्रारम्भ में भारतीय राज्य ब्रिटिश-भारतीय व्यवस्थाओं, भारत को बड़े प्रदेशों में विभक्त करने जिन्हें प्रेसिडेंसिस भी कहा जाता था, ये अति बहु भाषिकता एवं बहु भाषी प्रांतीय थे जिसमें भारत के संघ के अर्ध संघीय राज्य के प्रमुख राजनीतिक-प्रशासनिक इकाइयों का समावेश था। भाषा के साथ आंचलिकता एवं जनजातीय पहचान-एवं धर्म नहीं ने इस प्रकार भारत में उत्कट राष्ट्रीयता के निर्माण हेतु अत्यधिक शक्तिशाली साधन प्रदान किया।

आंचलिक की वृद्धि की पूर्वापेक्षाएं यह हैं :

1. प्रबल होने का भाव
2. बंचित होने का भाव
3. सशक्तिकरण का भाव
4. उन्नति का भाव

Options :

- 485584135317. 1
- 485584135318. 2
- 485584135319. 3
- 485584135320. 4

Sub-Section Number :

3

Sub-Section Id :

4855842447

Question Shuffling Allowed :

No

Is Section Default? :

null

Question Number : 516 Question Id : 48558433831 Question Type : MCQ Option Shuffling : No Is Question Mandatory : No Calculator : None Response Time : N.A Think Time : N.A Minimum Instruction Time : 0

Correct Marks : 5 Wrong Marks : 1

Question Key Details :

Key	Value
Comprehension	Comp2

Read the passage and answer the following questions:

These are indicators of the process of globalisation of agriculture, or the incorporation of agriculture into the larger global market - a process that has had direct effects on farmers and rural society. For instance, in some regions such as Punjab and Karnataka, farmers enter into contracts with multinational companies (such as PepsiCo) to grow certain crops (such as tomatoes and potatoes), which the companies then buy from them for processing or export. In such 'contract farming' systems, the company identifies the crops to be grown, provides the seeds and other inputs, as well as the knowhow and often also the working capital. In return, the farmer is assured of a market because the company guarantees that it will purchase the produce at a predetermined fixed price. Contract farming is very common now in the production of specialised items such as cut flowers, fruits such as grapes, figs and pomegranates, cotton and oil seeds. While contract farming appears to provide financial security to farmers, it can also lead to greater insecurity as farmers become dependent on these companies for their livelihoods. Contract farming of export-oriented products such as flowers and gherkins also means that agricultural land is diverted from food grain production. Contract farming has sociological significance in that it disengages many people from the production process and makes their own indigenous knowledge of agriculture irrelevant. In addition, contract farming caters primarily to the production of elite items, and because it usually requires high doses of fertilisers and pesticides, it is often not ecologically sustainable.

Contract farming happens for:

1. Cash crops only
2. Food crops only
3. Oil seeds and cotton
4. Food processing industry

Options :

- 485584135321. 1
- 485584135322. 2
- 485584135323. 3
- 485584135324. 4

Question Number : 516 Question Id : 48558433831 Question Type : MCQ Option Shuffling : No Is Question Mandatory : No Calculator : None Response Time : N.A Think Time : N.A Minimum Instruction Time : 0

Correct Marks : 5 Wrong Marks : 1

Question Key Details :

Key	Value
Comprehension	Comp2

कृषि के विश्वीकरण की प्रक्रिया के ये सूचक हैं- अथवा बड़े वैश्विक बाजार में कृषि के समाविष्ट करने के एक प्रक्रिया जिसका कृषकों एवं ग्रामीण समाज पर प्रत्यक्ष प्रभाव पड़ा था। उदाहरणार्थ कुछ क्षेत्रों और पंजाब एवं कर्नाटक में कृषक अपनी कुछ फसलों (जैसे कि टमाटर एवं आलू) के लिए बहुराष्ट्रीय कंपनियों (जैसे कि पेप्सिको) से करार कर लेते हैं जिसे वे क्रय कर लेती हैं। इन "संविदा कृषि" प्रणाली में कंपनी उगाई जाने वाली फसलों की पहचान करती है, बीज एवं अन्य इनपुटों के साथ-साथ तकनीकी और कभी-कभी कार्यशील पूंजी भी प्रदान करती है। इसके प्रतिफल में कृषक को बाजार का आश्रुत रहता है क्योंकि कंपनी इस बात की गारंटी देती है की वह पूर्व-निर्धारित कीमत उत्पादन की खरीद कर लेगी। संविदा खेती अब फूलों को तोड़ने, अंगूर, अंजीर एवं अनार, कपास एवं तिलहनों जैसी विशेषीकृत फसलों के उत्पादन में आम हो गई है। जबकि संविदा खेती कृषकों को वित्तीय प्रतिभूति प्रदत्त करती है, इससे उच्च असुरक्षा भी हो सकती है क्योंकि कृषक अपनी आजीविका हेतु इन कंपनियों के अधीन हो जाते हैं। संविदा खेती निर्यातमुख उत्पादकों जैसे फूल एवं खीरा की होती है जिसका तात्पर्य यह भी होता है कि कृषि भूमि को खाद्य उत्पादन का अपवर्तन किया जाता है। संविदा खेती का एक सामाजिक महत्ता भी है कि यह बहुत से लोगों को उत्पादन प्रक्रिया से बाहर कर देता है और उनके अपने कृषि की स्वदेशी ज्ञान को असंगत बना देता है, इसके अतिरिक्त संविदा खेती मुख्यतः विशिष्ट मर्दों के उत्पादन को पूरा करती है एवं क्योंकि इसमें सामान्यतया फर्टिलाइजर्स के उत्पादन को पूरा करती है क्योंकि इसमें सामान्यता फर्टिलाइजर्स और कीटनाशकों उच्च मात्रा की आवश्यकता होती है जो कभी-कभी पारिस्थितिक धारणीय नहीं होता है।

संविदा खेती इनकी होती है

1. नकदी फसलें केवल
2. खाद्य फसलें केवल
3. तिलहन एवं कपास
4. खाद्य प्रस्करण उद्योग

Options :

485584135321. 1
 485584135322. 2
 485584135323. 3
 485584135324. 4

Question Number : 517 Question Id : 48558433832 Question Type : MCQ Option Shuffling : No Is Question Mandatory : No Calculator : None Response Time : N.A Think Time : N.A Minimum Instruction Time : 0

Correct Marks : 5 Wrong Marks : 1

Question Key Details :

Key	Value
Comprehension	Comp2

Read the passage and answer the following questions:

These are indicators of the process of globalisation of agriculture, or the incorporation of agriculture into the larger global market - a process that has had direct effects on farmers and rural society. For instance, in some regions such as Punjab and Karnataka, farmers enter into contracts with multinational companies (such as PepsiCo) to grow certain crops (such as tomatoes and potatoes), which the companies then buy from them for processing or export. In such 'contract farming' systems, the company identifies the crops to be grown, provides the seeds and other inputs, as well as the knowhow and often also the working capital. In return, the farmer is assured of a market because the company guarantees that it will purchase the produce at a predetermined fixed price. Contract farming is very common now in the production of specialised items such as cut flowers, fruits such as grapes, figs and pomegranates, cotton and oil seeds. While contract farming appears to provide financial security to farmers, it can also lead to greater insecurity as farmers become dependent on these companies for their livelihoods. Contract farming of export-oriented products such as flowers and gherkins also means that agricultural land is diverted from food grain production. Contract farming has sociological significance in that it disengages many people from the production process and makes their own indigenous knowledge of agriculture irrelevant. In addition, contract farming caters primarily to the production of elite items, and because it usually requires high doses of fertilisers and pesticides, it is often not ecologically sustainable.

The change in the nature of relationship between landlords and agricultural workers has been described by the sociologist Jan Brewman as:

1. shift from patronage to exploitation
2. shift from ownership to tenancy
3. withdrawal from subsistence farming
4. withdrawal from agriculture

Options :

- 485584135325. 1
- 485584135326. 2
- 485584135327. 3
- 485584135328. 4

Question Number : 517 Question Id : 48558433832 Question Type : MCQ Option Shuffling : No Is Question Mandatory : No Calculator : None Response Time : N.A Think Time : N.A Minimum Instruction Time : 0

Correct Marks : 5 Wrong Marks : 1

Question Key Details :

Key	Value
Comprehension	Comp2

कृषि के विश्वीकरण की प्रक्रिया के ये सूचक हैं- अथवा बड़े वैश्विक बाजार में कृषि के समाविष्ट करने के एक प्रक्रिया जिसका कृषकों एवं ग्रामीण समाज पर प्रत्यक्ष प्रभाव पड़ा था। उदाहरणार्थ कुछ क्षेत्रों और पंजाब एवं कर्नाटक में कृषक अपनी कुछ फसलों (जैसे कि टमाटर एवं आलू) के लिए बहुराष्ट्रीय कंपनियों (जैसे कि पेप्सिको) से करार कर लेते हैं जिसे वे क्रय कर लेती हैं। इन "संविदा कृषि" प्रणाली में कंपनी उगाई जाने वाली फसलों की पहचान करती है, बीज एवं अन्य इनपुटों के साथ-साथ तकनीकी और कभी-कभी कार्यशील पंजी भी प्रदान करती है। इसके प्रतिफल में कृषक को बाजार का आश्रुत रहता है क्योंकि कंपनी इस बात की गारंटी देती है की वह पूर्व-निर्धारित कीमत उत्पादन की खरीद कर लेगी। संविदा खेती अब फूलों को तोड़ने, अंगूर, अंजीर एवं अनार, कपास एवं तिलहनों जैसी विशेषीकृत फसलों के उत्पादन में आम हो गई है। जबकि संविदा खेती कृषकों को वित्तीय प्रतिभूति प्रदत्त करती है, इससे उच्च असुरक्षा भी हो सकती है क्योंकि कृषक अपनी आजीविका हेतु इन कंपनियों के अधीन हो जाते हैं। संविदा खेती निर्यातमुख उत्पादकों जैसे फूल एवं खीरा की होती है जिसका तात्पर्य यह भी होता है कि कृषि भूमि को खाद्य उत्पादन का अपवर्तन किया जाता है। संविदा खेती का एक सामाजिक महत्ता भी है कि यह बहुत से लोगों को उत्पादन प्रक्रिया से बाहर कर देता है और उनके अपने कृषि की स्वदेशी ज्ञान को असंगत बना देता है, इसके अतिरिक्त संविदा खेती मुख्यतः विशिष्ट मर्दों के उत्पादन को पूरा करती है एवं क्योंकि इसमें सामान्यतया फर्टिलाइजर्स के उत्पादन को पूरा करती है क्योंकि इसमें सामान्यता फर्टिलाइजर्स और कीटनाशकों उच्च मात्रा की आवश्यकता होती है जो कभी-कभी पौरिस्थितिक धारणीय नहीं होता है।

भूमालिकों एवं कृषि श्रमिकों के मध्य संबंधों की प्रकृति में परिवर्तन को समाजशास्त्री जॉन ब्रिगमन ने वर्णित किया है

1. संरक्षण से शोषण खिसकना
2. स्वामित्व से किरायेदारी में बदलना
3. अवस्थिति से प्रत्याहार
4. कृषि से प्रत्याहार

Options :

- 485584135325. 1
- 485584135326. 2
- 485584135327. 3
- 485584135328. 4

Question Number : 518 Question Id : 48558433833 Question Type : MCQ Option Shuffling : No Is Question Mandatory : No Calculator : None Response Time : N.A Think Time : N.A Minimum Instruction Time : 0

Correct Marks : 5 Wrong Marks : 1

Question Key Details :

Key	Value
Comprehension	Comp2

Read the passage and answer the following questions:

These are indicators of the process of globalisation of agriculture, or the incorporation of agriculture into the larger global market - a process that has had direct effects on farmers and rural society. For instance, in some regions such as Punjab and Karnataka, farmers enter into contracts with multinational companies (such as PepsiCo) to grow certain crops (such as tomatoes and potatoes), which the companies then buy from them for processing or export. In such 'contract farming' systems, the company identifies the crops to be grown, provides the seeds and other inputs, as well as the knowhow and often also the working capital. In return, the farmer is assured of a market because the company guarantees that it will purchase the produce at a predetermined fixed price. Contract farming is very common now in the production of specialised items such as cut flowers, fruits such as grapes, figs and pomegranates, cotton and oil seeds. While contract farming appears to provide financial security to farmers, it can also lead to greater insecurity as farmers become dependent on these companies for their livelihoods. Contract farming of export-oriented products such as flowers and gherkins also means that agricultural land is diverted from food grain production. Contract farming has sociological significance in that it disengages many people from the production process and makes their own indigenous knowledge of agriculture irrelevant. In addition, contract farming caters primarily to the production of elite items, and because it usually requires high doses of fertilisers and pesticides, it is often not ecologically sustainable.

Who decides the crop to be grown under contract farming?

1. Farmer
2. Tenants
3. Labourer
4. Company

Options :

485584135329. 1
485584135330. 2
485584135331. 3
485584135332. 4

Question Number : 518 Question Id : 48558433833 Question Type : MCQ Option Shuffling : No Is Question Mandatory : No Calculator : None Response Time : N.A Think Time : N.A Minimum Instruction Time : 0

Correct Marks : 5 Wrong Marks : 1

Question Key Details :

Key	Value
Comprehension	Comp2

कृषि के विश्वीकरण की प्रक्रिया के ये सूचक हैं- अथवा बड़े वैश्विक बाजार में कृषि के समाविष्ट करने के एक प्रक्रिया जिसका कृषकों एवं ग्रामीण समाज पर प्रत्यक्ष प्रभाव पड़ा था। उदाहरणार्थ कुछ क्षेत्रों और पंजाब एवं कर्नाटक में कृषक अपनी कुछ फसलों (जैसे कि टमाटर एवं आलू) के लिए बहुराष्ट्रीय कंपनियों (जैसे कि पेप्सिको) से करार कर लेते हैं जिसे वे क्रय कर लेती हैं। इन "संविदा कृषि" प्रणाली में कंपनी उगाई जाने वाली फसलों की पहचान करती है, बीज एवं अन्य इनपुटों के साथ-साथ तकनीकी और कभी-कभी कार्यशील पंजी भी प्रदान करती है। इसके प्रतिफल में कृषक को बाजार का आश्रुत रहता है क्योंकि कंपनी इस बात की गारंटी देती है की वह पूर्व-निर्धारित कीमत उत्पादन की खरीद कर लेगी। संविदा खेती अब फूलों को तोड़ने, अंगूर, अंजीर एवं अनार, कपास एवं तिलहनों जैसी विशेषीकृत फसलों के उत्पादन में आम हो गई है। जबकि संविदा खेती कृषकों को वित्तीय प्रतिभूति प्रदत्त करती है, इससे उच्च असुरक्षा भी हो सकती है क्योंकि कृषक अपनी आजीविका हेतु इन कंपनियों के अधीन हो जाते हैं। संविदा खेती निर्यातमुख उत्पादकों जैसे फूल एवं खीरा की होती है जिसका तात्पर्य यह भी होता है कि कृषि भूमि को खाद्य उत्पादन का अपवर्तन किया जाता है। संविदा खेती का एक सामाजिक महत्ता भी है कि यह बहुत से लोगों को उत्पादन प्रक्रिया से बाहर कर देता है और उनके अपने कृषि की स्वदेशी ज्ञान को असंगत बना देता है, इसके अतिरिक्त संविदा खेती मुख्यतः विशिष्ट मर्दों के उत्पादन को पूरा करती है एवं क्योंकि इसमें सामान्यतया फर्टिलाइजर्स के उत्पादन को पूरा करती है क्योंकि इसमें सामान्यता फर्टिलाइजर्स और कीटनाशकों उच्च मात्रा की आवश्यकता होती है जो कभी-कभी पौरिस्थितिक धारणीय नहीं होता है।

संविदा खेती में उत्पादित किये जाने वाले फसलों को कौन निर्धारित करता है?

1. कृषक
2. किराएदार
3. श्रमिक
4. कंपनी

Options :

485584135329. 1
 485584135330. 2
 485584135331. 3
 485584135332. 4

Question Number : 519 Question Id : 48558433834 Question Type : MCQ Option Shuffling : No Is Question Mandatory : No Calculator : None Response Time : N.A Think Time : N.A Minimum Instruction Time : 0

Correct Marks : 5 Wrong Marks : 1

Question Key Details :

Key	Value
Comprehension	Comp2

Read the passage and answer the following questions:

These are indicators of the process of globalisation of agriculture, or the incorporation of agriculture into the larger global market - a process that has had direct effects on farmers and rural society. For instance, in some regions such as Punjab and Karnataka, farmers enter into contracts with multinational companies (such as PepsiCo) to grow certain crops (such as tomatoes and potatoes), which the companies then buy from them for processing or export. In such 'contract farming' systems, the company identifies the crops to be grown, provides the seeds and other inputs, as well as the knowhow and often also the working capital. In return, the farmer is assured of a market because the company guarantees that it will purchase the produce at a predetermined fixed price. Contract farming is very common now in the production of specialised items such as cut flowers, fruits such as grapes, figs and pomegranates, cotton and oil seeds. While contract farming appears to provide financial security to farmers, it can also lead to greater insecurity as farmers become dependent on these companies for their livelihoods. Contract farming of export-oriented products such as flowers and gherkins also means that agricultural land is diverted from food grain production. Contract farming has sociological significance in that it disengages many people from the production process and makes their own indigenous knowledge of agriculture irrelevant. In addition, contract farming caters primarily to the production of elite items, and because it usually requires high doses of fertilisers and pesticides, it is often not ecologically sustainable.

Out of the following, which is not a demerit of contract farming?

1. Provides financial security to the farmer
2. Indigenous knowledge becomes irrelevant regarding agriculture
3. Ecologically not sustainable
4. Does not produce for the masses

Options :

485584135333. 1

485584135334. 2

485584135335. 3

485584135336. 4

Question Number : 519 Question Id : 48558433834 Question Type : MCQ Option Shuffling : No Is Question Mandatory : No Calculator : None Response Time : N.A Think Time : N.A Minimum Instruction Time : 0

Correct Marks : 5 Wrong Marks : 1

Question Key Details :

Key	Value
Comprehension	Comp2

कृषि के विश्वीकरण की प्रक्रिया के ये सूचक हैं- अथवा बड़े वैश्विक बाजार में कृषि के समाविष्ट करने के एक प्रक्रिया जिसका कृषकों एवं ग्रामीण समाज पर प्रत्यक्ष प्रभाव पड़ा था। उदाहरणार्थ कुछ क्षेत्रों और पंजाब एवं कर्नाटक में कृषक अपनी कुछ फसलों (जैसे कि टमाटर एवं आलू) के लिए बहुराष्ट्रीय कंपनियों (जैसे कि पेप्सिको) से करार कर लेते हैं जिसे वे क्रय कर लेती हैं। इन "संविदा कृषि" प्रणाली में कंपनी उगाई जाने वाली फसलों की पहचान करती है, बीज एवं अन्य इनपुटों के साथ-साथ तकनीकी और कभी-कभी कार्यशील पूंजी भी प्रदान करती है। इसके प्रतिफल में कृषक को बाजार का आश्रुत रहता है क्योंकि कंपनी इस बात की गारंटी देती है की वह पूर्व-निर्धारित कीमत उत्पादन की खरीद कर लेगी। संविदा खेती अब फूलों को तोड़ने, अंगूर, अंजीर एवं अनार, कपास एवं तिलहनों जैसी विशेषीकृत फसलों के उत्पादन में आम हो गई है। जबकि संविदा खेती कृषकों को वित्तीय प्रतिभूति प्रदत्त करती है, इससे उच्च असुरक्षा भी हो सकती है क्योंकि कृषक अपनी आजीविका हेतु इन कंपनियों के अधीन हो जाते हैं। संविदा खेती निर्यातमुख उत्पादकों जैसे फूल एवं खीरा की होती है जिसका तात्पर्य यह भी होता है कि कृषि भूमि को खाद्य उत्पादन का अपवर्तन किया जाता है। संविदा खेती का एक सामाजिक महत्ता भी है कि यह बहुत से लोगों को उत्पादन प्रक्रिया से बाहर कर देता है और उनके अपने कृषि की स्वदेशी ज्ञान को असंगत बना देता है, इसके अतिरिक्त संविदा खेती मुख्यतः विशिष्ट मर्दों के उत्पादन को पूरा करती है एवं क्योंकि इसमें सामान्यतया फर्टिलाइजर्स के उत्पादन को पूरा करती है क्योंकि इसमें सामान्यता फर्टिलाइजर्स और कीटनाशकों उच्च मात्रा की आवश्यकता होती है जो कभी-कभी पारिस्थितिक धारणीय नहीं होता है।

निम्नलिखित में से कौन संविदा खेती की अच्छाई नहीं है?

1. कृषक को वित्तीय प्रतिभूति प्रदान करता है
2. कृषि के संबंध स्वदेशी ज्ञान नगण्य हो जाता है
3. पारिस्थितिकी में धारणीय नहीं है
4. आम जनता हेतु उत्पादन नहीं किया जाता है

Options :

485584135333. 1
 485584135334. 2
 485584135335. 3
 485584135336. 4

Question Number : 520 Question Id : 48558433835 Question Type : MCQ Option Shuffling : No Is Question Mandatory : No Calculator : None Response Time : N.A Think Time : N.A Minimum Instruction Time : 0

Correct Marks : 5 Wrong Marks : 1

Question Key Details :

Key	Value
Comprehension	Comp2

Read the passage and answer the following questions:

These are indicators of the process of globalisation of agriculture, or the incorporation of agriculture into the larger global market - a process that has had direct effects on farmers and rural society. For instance, in some regions such as Punjab and Karnataka, farmers enter into contracts with multinational companies (such as PepsiCo) to grow certain crops (such as tomatoes and potatoes), which the companies then buy from them for processing or export. In such 'contract farming' systems, the company identifies the crops to be grown, provides the seeds and other inputs, as well as the knowhow and often also the working capital. In return, the farmer is assured of a market because the company guarantees that it will purchase the produce at a predetermined fixed price. Contract farming is very common now in the production of specialised items such as cut flowers, fruits such as grapes, figs and pomegranates, cotton and oil seeds. While contract farming appears to provide financial security to farmers, it can also lead to greater insecurity as farmers become dependent on these companies for their livelihoods. Contract farming of export-oriented products such as flowers and gherkins also means that agricultural land is diverted from food grain production. Contract farming has sociological significance in that it disengages many people from the production process and makes their own indigenous knowledge of agriculture irrelevant. In addition, contract farming caters primarily to the production of elite items, and because it usually requires high doses of fertilisers and pesticides, it is often not ecologically sustainable.

The system described in the passage is possible due to which process?

1. Globalisation
2. Contract farming
3. Trans National Corporation
4. Glocalisation

Options :

- 485584135337. 1
- 485584135338. 2
- 485584135339. 3
- 485584135340. 4

Question Number : 520 Question Id : 48558433835 Question Type : MCQ Option Shuffling : No Is Question Mandatory : No Calculator : None Response Time : N.A Think Time : N.A Minimum Instruction Time : 0

Correct Marks : 5 Wrong Marks : 1

Question Key Details :

Key	Value
Comprehension	Comp2

कृषि के विश्वीकरण की प्रक्रिया के ये सूचक हैं- अथवा बड़े वैश्विक बाजार में कृषि के समाविष्ट करने के एक प्रक्रिया जिसका कृषकों एवं ग्रामीण समाज पर प्रत्यक्ष प्रभाव पड़ा था। उदाहरणार्थ कुछ क्षेत्रों और पंजाब एवं कर्नाटक में कृषक अपनी कुछ फसलों (जैसे कि टमाटर एवं आलू) के लिए बहुराष्ट्रीय कंपनियों (जैसे कि पेप्सिको) से करार कर लेते हैं जिसे वे क्रय कर लेती हैं। इन "संविदा कृषि" प्रणाली में कंपनी उगाई जाने वाली फसलों की पहचान करती है, बीज एवं अन्य इनपुटों के साथ-साथ तकनीकी और कभी-कभी कार्यशील पंजी भी प्रदान करती है। इसके प्रतिफल में कृषक को बाजार का आश्रुत रहता है क्योंकि कंपनी इस बात की गारंटी देती है की वह पूर्व-निर्धारित कीमत उत्पादन की खरीद कर लेगी। संविदा खेती अब फूलों को तोड़ने, अंगूर, अंजीर एवं अनार, कपास एवं तिलहनों जैसी विशेषीकृत फसलों के उत्पादन में आम हो गई है। जबकि संविदा खेती कृषकों को वित्तीय प्रतिभूति प्रदत्त करती है, इससे उच्च असुरक्षा भी हो सकती है क्योंकि कृषक अपनी आजीविका हेतु इन कंपनियों के अधीन हो जाते हैं। संविदा खेती निर्यातमुख उत्पादकों जैसे फूल एवं खीरा की होती है जिसका तात्पर्य यह भी होता है कि कृषि भूमि को खाद्य उत्पादन का अपवर्तन किया जाता है। संविदा खेती का एक सामाजिक महत्ता भी है कि यह बहुत से लोगों को उत्पादन प्रक्रिया से बाहर कर देता है और उनके अपने कृषि की स्वदेशी ज्ञान को असंगत बना देता है, इसके अतिरिक्त संविदा खेती मुख्यतः विशिष्ट मर्दों के उत्पादन को पूरा करती है एवं क्योंकि इसमें सामान्यतया फर्टिलाइजर्स के उत्पादन को पूरा करती है क्योंकि इसमें सामान्यता फर्टिलाइजर्स और कीटनाशकों उच्च मात्रा की आवश्यकता होती है जो कभी-कभी पौरिस्थितिक धारणीय नहीं होता है।

गद्यांश में वर्णित प्रणाली किस प्रक्रिया से संभव है

1. वैश्वीकरण
2. संविदा खेती
3. ट्रांसनेशन कारपोरेशन
4. ग्लोकालिसेशन

Options :

485584135337. 1
 485584135338. 2
 485584135339. 3
 485584135340. 4

General Test

Group Number :	13
Group Id :	485584751
Group Maximum Duration :	60
Group Minimum Duration :	60
Show Attended Group? :	No
Edit Attended Group? :	No
Break time :	0
Group Marks :	250
Is this Group for Examiner? :	No
Examiner permission :	Cant View
Show Progress Bar? :	No

General Test

Section Id :	485584869
Section Number :	1
Section type :	Online
Mandatory or Optional :	Mandatory

Number of Questions :	60
Number of Questions to be attempted :	50
Section Marks :	250
Enable Mark as Answered Mark for Review and Clear Response :	Yes
Maximum Instruction Time :	0
Sub-Section Number :	1
Sub-Section Id :	4855842448
Question Shuffling Allowed :	Yes
Is Section Default? :	null

Question Number : 521 Question Id : 48558433886 Question Type : MCQ Option Shuffling : No Is Question Mandatory : No Calculator : None Response Time : N.A Think Time : N.A Minimum Instruction Time : 0

Correct Marks : 5 Wrong Marks : 1

Question Key Details :

Key	Value
Comprehension	MCQ

The C.P. of two shirts taken together is ₹910. If by selling one at a profit of 16% and the other at a loss of 12%, there is no loss or gain in the whole transaction, then the C.P. of the two shirts are respectively:

1. 380, 530
2. 370, 540
3. 390, 520
4. 400, 510

Options :

485584135541. 1
485584135542. 2
485584135543. 3
485584135544. 4

Question Number : 521 Question Id : 48558433886 Question Type : MCQ Option Shuffling : No Is Question Mandatory : No Calculator : None Response Time : N.A Think Time : N.A Minimum Instruction Time : 0

Correct Marks : 5 Wrong Marks : 1

Question Key Details :

Key	Value
Comprehension	MCQ

दो कमीजों का कुल क्रयमूल्य ₹910 है। यदि एक को 16% लाभ तथा दूसरे को 12% हानी पर विक्रय किया जाता है, तो इस पूरे लेन देन में ना तो हानी ना ही लाभ होता है। कमीजों का क्रयमूल्य क्रमशः है:

1. 380, 530
2. 370, 540
3. 390, 520
4. 400, 510

Options :

485584135541. 1

485584135542. 2
485584135543. 3
485584135544. 4

Question Number : 522 Question Id : 48558433887 Question Type : MCQ Option Shuffling : No Is Question Mandatory : No Calculator : None Response Time : N.A Think Time : N.A Minimum Instruction Time : 0

Correct Marks : 5 Wrong Marks : 1

Question Key Details :

Key	Value
Comprehension	MCQ

Heera purchased a bag for ₹4500 and sold it for ₹8,200. What is the profit percentage? (Correct to two places of decimal)

1. 82.22
2. 73.62
3. 45.12
4. 52.42

Options :

485584135545. 1
485584135546. 2
485584135547. 3
485584135548. 4

Question Number : 522 Question Id : 48558433887 Question Type : MCQ Option Shuffling : No Is Question Mandatory : No Calculator : None Response Time : N.A Think Time : N.A Minimum Instruction Time : 0

Correct Marks : 5 Wrong Marks : 1

Question Key Details :

Key	Value
Comprehension	MCQ

एक बैग को हीरा ने ₹4500 में खरिदा और ₹8,200 में बेच दिया। लाभ का प्रतिशत क्या है? (देशमलव के दो स्थानों तक सही गणना को)

1. 82.22
2. 73.62
3. 45.12
4. 52.42

Options :

485584135545. 1
485584135546. 2
485584135547. 3
485584135548. 4

Question Number : 523 Question Id : 48558433888 Question Type : MCQ Option Shuffling : No Is Question Mandatory : No Calculator : None Response Time : N.A Think Time : N.A Minimum Instruction Time : 0

Correct Marks : 5 Wrong Marks : 1

Question Key Details :

Key	Value
Comprehension	MCQ

What is the value of ${}^{81}P_2 - {}^{81}C_2$?

1. 6480
2. 3240
3. 2775
4. 5040

Options :

485584135549. 1
485584135550. 2
485584135551. 3
485584135552. 4

Question Number : 523 Question Id : 48558433888 Question Type : MCQ Option Shuffling : No Is Question Mandatory : No Calculator : None Response Time : N.A Think Time : N.A Minimum Instruction Time : 0

Correct Marks : 5 Wrong Marks : 1

Question Key Details :

Key	Value
Comprehension	MCQ

${}^{81}P_2 - {}^{81}C_2$ का मान क्या होगा?

1. 6480
2. 3240
3. 2775
4. 5040

Options :

485584135549. 1
485584135550. 2
485584135551. 3
485584135552. 4

Question Number : 524 Question Id : 48558433889 Question Type : MCQ Option Shuffling : No Is Question Mandatory : No Calculator : None Response Time : N.A Think Time : N.A Minimum Instruction Time : 0

Correct Marks : 5 Wrong Marks : 1

Question Key Details :

Key	Value
Comprehension	MCQ

If ${}^nC_9 = {}^nC_3$, what is n ?

1. 10
2. 11
3. 12
4. 13

Options :

485584135553. 1
485584135554. 2
485584135555. 3
485584135556. 4

Question Number : 524 Question Id : 48558433889 Question Type : MCQ Option Shuffling : No Is Question Mandatory : No Calculator : None Response Time : N.A Think Time : N.A Minimum Instruction Time : 0

Correct Marks : 5 Wrong Marks : 1

Question Key Details :

Key	Value
Comprehension	MCQ

यदि ${}^nC_9 = {}^nC_3$ तो n क्या है?

1. 10
2. 11
3. 12
4. 13

Options :

485584135553. 1
485584135554. 2
485584135555. 3
485584135556. 4

Question Number : 525 Question Id : 48558433890 Question Type : MCQ Option Shuffling : No Is Question Mandatory : No Calculator : None Response Time : N.A Think Time : N.A Minimum Instruction Time : 0

Correct Marks : 5 Wrong Marks : 1

Question Key Details :

Key	Value
Comprehension	MCQ

The Curved Surface Area of a right circular cylinder of base radius r is obtained by multiplying its volume:

1. $2r^2$

2. $\frac{2}{r^2}$

3. $2r$

4. $\frac{2}{r}$

Options :

485584135557. 1

485584135558. 2

485584135559. 3

485584135560. 4

Question Number : 525 Question Id : 48558433890 Question Type : MCQ Option Shuffling : No Is Question Mandatory : No Calculator : None Response Time : N.A Think Time : N.A Minimum Instruction Time : 0

Correct Marks : 5 Wrong Marks : 1

Question Key Details :

Key	Value
Comprehension	MCQ

एक समकोण वृत्ताकार बेलन जिसकी त्रिज्या r है के वक्र पृष्ठ क्षेत्रफल को किस विकल्प के साथ गुणा करने पर आयतन मिलेगा _____ :

1. $2r^2$

2. $\frac{2}{r^2}$

3. $2r$

4. $\frac{2}{r}$

Options :

485584135557. 1

485584135558. 2

485584135559. 3

485584135560. 4

Question Number : 526 Question Id : 48558433891 Question Type : MCQ Option Shuffling : No Is Question Mandatory : No Calculator : None Response Time : N.A Think Time : N.A Minimum Instruction Time : 0

Correct Marks : 5 Wrong Marks : 1

Question Key Details :

Key	Value
Comprehension	MCQ

Match List I with List II

LIST I		LIST II	
A.	Volume of cone	I.	$\frac{1}{3}\pi h(r_1^2 + r_2^2 + r_1r_2)$
B.	Volume of sphere	II.	$\frac{4}{3}\pi r^3$
C.	Volume of Frustum	III.	$\pi r^2 h$
D.	Volume of cylinder	IV.	$\frac{1}{3}\pi r^2 h$

Choose the correct answer from the options given below:

1. A-IV, B-I, C-III, D-II
2. A-III, B-IV, C-II, D-I
3. A-I, B-II, C-III, D-IV
4. A-II, B-IV, C-I, D-III

Options :

485584135561. 1
485584135562. 2
485584135563. 3
485584135564. 4

Question Number : 526 Question Id : 48558433891 Question Type : MCQ Option Shuffling : No Is Question Mandatory : No Calculator : None Response Time : N.A Think Time : N.A Minimum Instruction Time : 0

Correct Marks : 5 Wrong Marks : 1

Question Key Details :

Key	Value
Comprehension	MCQ

सूची I का सूची II से मिलान कीजिए

सूची I		सूची II	
A.	शंकु का आयतन	I.	$\frac{1}{3}\pi h(r_1^2 + r_2^2 + r_1r_2)$
B.	गोले का आयतन	II.	$\frac{4}{3}\pi r^3$
C.	छिन्नक का आयतन	III.	$\pi r^2 h$
D.	बेलन का आयतन	IV.	$\frac{1}{3}\pi r^2 h$

निम्नलिखित विकल्पों में से सही उत्तर का चयन कीजिए :

1. A-IV, B-I, C-III, D-II
2. A-III, B-IV, C-II, D-I
3. A-I, B-II, C-III, D-IV
4. A-II, B-IV, C-I, D-III

Options :

485584135561. 1
485584135562. 2
485584135563. 3
485584135564. 4

Question Number : 527 Question Id : 48558433892 Question Type : MCQ Option Shuffling : No Is Question Mandatory : No Calculator : None Response Time : N.A Think Time : N.A Minimum Instruction Time : 0

Correct Marks : 5 Wrong Marks : 1

Question Key Details :

Key	Value
Comprehension	MCQ

A sum of money triples itself in 3 years at simple interest. In how many years will it become 9 times of itself?

1. 9 years
2. 10 years
3. 12 years
4. 8 years

Options :

485584135565. 1
485584135566. 2
485584135567. 3
485584135568. 4

Question Number : 527 Question Id : 48558433892 Question Type : MCQ Option Shuffling : No Is Question Mandatory : No Calculator : None Response Time : N.A Think Time : N.A Minimum Instruction Time : 0

Correct Marks : 5 Wrong Marks : 1

Question Key Details :

Key	Value
Comprehension	MCQ

एक मुलधन 3 वर्षों में सामान्य ब्याज के साथ मूलधन का 3 गुणा हो जाता है। कितने वर्षों में यह मुलधन खुद का 9 गुना हो जाएगा।

1. 9 वर्षों

2. 10 वर्षों

3. 12 वर्षों

4. 8 वर्षों

Options :

485584135565. 1

485584135566. 2

485584135567. 3

485584135568. 4

Question Number : 528 Question Id : 48558433893 Question Type : MCQ Option Shuffling : No Is Question Mandatory : No Calculator : None Response Time : N.A Think Time : N.A Minimum Instruction Time : 0

Correct Marks : 5 Wrong Marks : 1

Question Key Details :

Key	Value
Comprehension	MCQ

At what rate of simple interest, a sum of ₹1,800 will become ₹2,700 in 10 years?

1. 10%

2. 6%

3. 6.75%

4. 5%

Options :

485584135569. 1

485584135570. 2

485584135571. 3

485584135572. 4

Question Number : 528 Question Id : 48558433893 Question Type : MCQ Option Shuffling : No Is Question Mandatory : No Calculator : None Response Time : N.A Think Time : N.A Minimum Instruction Time : 0

Correct Marks : 5 Wrong Marks : 1

Question Key Details :

Key	Value
Comprehension	MCQ

₹1,800 कि, दस (10) में सामान्य ब्याज के किस दर पर, ₹2,700 बन जाएगा?

1. 10%
2. 6%
3. 6.75%
4. 5%

Options :

485584135569. 1
485584135570. 2
485584135571. 3
485584135572. 4

Question Number : 529 Question Id : 48558433894 Question Type : MCQ Option Shuffling : No Is Question Mandatory : No Calculator : None Response Time : N.A Think Time : N.A Minimum Instruction Time : 0

Correct Marks : 5 Wrong Marks : 1

Question Key Details :

Key	Value
Comprehension	MCQ

Where does the point P (-5, 0) lies?

1. Third quadrant
2. y-axis
3. x-axis
4. Fourth quadrant

Options :

485584135573. 1
485584135574. 2
485584135575. 3
485584135576. 4

Question Number : 529 Question Id : 48558433894 Question Type : MCQ Option Shuffling : No Is Question Mandatory : No Calculator : None Response Time : N.A Think Time : N.A Minimum Instruction Time : 0

Correct Marks : 5 Wrong Marks : 1

Question Key Details :

Key	Value
Comprehension	MCQ

बिंदु P (-5, 0) कहाँ अवस्थित है?

1. तृतीय चतुर्थांश
2. y-अक्ष
3. x-अक्ष
4. चौथा चतुर्थांश

Options :

485584135573. 1
485584135574. 2
485584135575. 3
485584135576. 4

Question Number : 530 Question Id : 48558433895 Question Type : MCQ Option Shuffling : No Is Question Mandatory : No Calculator : None Response Time : N.A Think Time : N.A Minimum Instruction Time : 0

Correct Marks : 5 Wrong Marks : 1

Question Key Details :

Key	Value
Comprehension	MCQ

If P, R, T are the areas of parallelogram, a rhombus and a triangle standing on the same base and between the same parallel lines, then which of the following is true?

1. $R < P < T$
2. $P > R > T$
3. $R = P = T$
4. $R = P = 2T$

Options :

485584135577. 1
485584135578. 2
485584135579. 3
485584135580. 4

Question Number : 530 Question Id : 48558433895 Question Type : MCQ Option Shuffling : No Is Question Mandatory : No Calculator : None Response Time : N.A Think Time : N.A Minimum Instruction Time : 0

Correct Marks : 5 Wrong Marks : 1

Question Key Details :

Key	Value
Comprehension	MCQ

यदि P, R और T क्रमशः एक ही आधार और दो समांतर सेलाओं के मध्य स्थित समांतर चतुर्गुण, समगुण, और त्रिज्या के क्षेत्रफल है, निम्न में से कौन सा सत्य है?

1. $R < P < T$
2. $P > R > T$
3. $R = P = T$
4. $R = P = 2T$

Options :

485584135577. 1
485584135578. 2
485584135579. 3
485584135580. 4

Question Number : 531 Question Id : 48558433896 Question Type : MCQ Option Shuffling : No Is Question Mandatory : No Calculator : None Response Time : N.A Think Time : N.A Minimum Instruction Time : 0

Correct Marks : 5 Wrong Marks : 1

Question Key Details :

Key	Value
Comprehension	MCQ

Given expression:

$$\frac{(0.682)^2 - (0.318)^2}{0.682 - 0.318}$$

1. 2
2. 4
3. 1
4. 5

Options :

485584135581. 1
485584135582. 2
485584135583. 3
485584135584. 4

Question Number : 531 Question Id : 48558433896 Question Type : MCQ Option Shuffling : No Is Question Mandatory : No Calculator : None Response Time : N.A Think Time : N.A Minimum Instruction Time : 0

Correct Marks : 5 Wrong Marks : 1

Question Key Details :

Key	Value
Comprehension	MCQ

दिए गए व्यंजक को हल करें:

$$\frac{(0.682)^2 - (0.318)^2}{0.682 - 0.318}$$

1. 2

2. 4

3. 1

4. 5

Options :

485584135581. 1

485584135582. 2

485584135583. 3

485584135584. 4

Question Number : 532 Question Id : 48558433897 Question Type : MCQ Option Shuffling : No Is Question Mandatory : No Calculator : None Response Time : N.A Think Time : N.A Minimum Instruction Time : 0

Correct Marks : 5 Wrong Marks : 1

Question Key Details :

Key	Value
Comprehension	MCQ

A man goes uphill with an average speed of 24 km/h and comes down with an average speed of 36 km/h. The distance travelled in both cases being the same. The average speed for the entire journey is:

1. 30 km/h

2. 28.8 km/h

3. 32 km/h

4. 45 km/h

Options :

485584135585. 1

485584135586. 2

485584135587. 3

485584135588. 4

Question Number : 532 Question Id : 48558433897 Question Type : MCQ Option Shuffling : No Is Question Mandatory : No Calculator : None Response Time : N.A Think Time : N.A Minimum Instruction Time : 0

Correct Marks : 5 Wrong Marks : 1

Question Key Details :

Key	Value
Comprehension	MCQ

एक व्यक्ति पहाड़ी के ऊपर औसत 24 km/h से जाता है और फिर औसत चाल 36 km/h से निचे आता है। दोनो स्थितियों में तय की गई दुरी बराबर है। इस पूर्ण यात्रा में औसत गति है:

1. 30 km/h
2. 28.8 km/h
3. 32 km/h
4. 45 km/h

Options :

485584135585. 1
485584135586. 2
485584135587. 3
485584135588. 4

Question Number : 533 Question Id : 48558433898 Question Type : MCQ Option Shuffling : No Is Question Mandatory : No Calculator : None Response Time : N.A Think Time : N.A Minimum Instruction Time : 0

Correct Marks : 5 Wrong Marks : 1

Question Key Details :

Key	Value
Comprehension	MCQ

A 300 m long train is moving at a speed of 60 km/h. In what time will it cross a single pole?

1. 25 sec
2. 30 sec
3. 18 sec
4. 12 sec

Options :

485584135589. 1
485584135590. 2
485584135591. 3
485584135592. 4

Question Number : 533 Question Id : 48558433898 Question Type : MCQ Option Shuffling : No Is Question Mandatory : No Calculator : None Response Time : N.A Think Time : N.A Minimum Instruction Time : 0

Correct Marks : 5 Wrong Marks : 1

Question Key Details :

Key	Value
Comprehension	MCQ

एक 300 m लम्बी ट्रेन 60 km/h की चाल से चल रही है। कितने समय में यह एक खम्बे को क्रॉस करेगी?

1. 25 सेकण्ड
2. 30 सेकण्ड
3. 18 सेकण्ड
4. 12 सेकण्ड

Options :

485584135589. 1
485584135590. 2
485584135591. 3
485584135592. 4

Question Number : 534 Question Id : 48558433899 Question Type : MCQ Option Shuffling : No Is Question Mandatory : No Calculator : None Response Time : N.A Think Time : N.A Minimum Instruction Time : 0

Correct Marks : 5 Wrong Marks : 1

Question Key Details :

Key	Value
Comprehension	MCQ

In a polyhedron, the number of faces is 4 and the number of edges is 6, then the number of vertices of that polyhedron is:

1. 1
2. 2
3. 3
4. 4

Options :

485584135593. 1
485584135594. 2
485584135595. 3
485584135596. 4

Question Number : 534 Question Id : 48558433899 Question Type : MCQ Option Shuffling : No Is Question Mandatory : No Calculator : None Response Time : N.A Think Time : N.A Minimum Instruction Time : 0

Correct Marks : 5 Wrong Marks : 1

Question Key Details :

Key	Value
Comprehension	MCQ

एक बहुफलक में फलकों की संख्या 4 है और भुजाएँ (किनारों) की संख्या 6 है तब उसके शिर्षों की संख्या है।

1. 1
2. 2
3. 3
4. 4

Options :

485584135593. 1
485584135594. 2
485584135595. 3
485584135596. 4

Question Number : 535 Question Id : 48558433900 Question Type : MCQ Option Shuffling : No Is Question Mandatory : No Calculator : None Response Time : N.A Think Time : N.A Minimum Instruction Time : 0

Correct Marks : 5 Wrong Marks : 1

Question Key Details :

Key	Value
Comprehension	MCQ

The number $0.\overline{423}$ converted to a fraction, then it is equal to:

1. $\frac{1147}{300}$
2. $\frac{419}{900}$
3. $\frac{419}{990}$
4. $\frac{423}{100}$

Options :

485584135597. 1
485584135598. 2
485584135599. 3
485584135600. 4

Question Number : 535 Question Id : 48558433900 Question Type : MCQ Option Shuffling : No Is Question Mandatory : No Calculator : None Response Time : N.A Think Time : N.A Minimum Instruction Time : 0

Correct Marks : 5 Wrong Marks : 1

Question Key Details :

Key	Value
Comprehension	MCQ

संख्या 0.423 को भिन्न के रूप में बदलने पर -

1. $\frac{1147}{300}$

2. $\frac{419}{900}$

3. $\frac{419}{990}$

4. $\frac{423}{100}$

Options :

485584135597. 1

485584135598. 2

485584135599. 3

485584135600. 4

Question Number : 536 Question Id : 48558433901 Question Type : MCQ Option Shuffling : No Is Question Mandatory : No Calculator : None Response Time : N.A Think Time : N.A Minimum Instruction Time : 0

Correct Marks : 5 Wrong Marks : 1

Question Key Details :

Key	Value
Comprehension	MCQ

Which of the following is called 'Trapezium'?

1. All the sides are equal
2. Two opposite parallel sides are equal
3. Two opposite sides are parallel and two opposite sides are non-parallel
4. A pair of adjacent sides are equal

Options :

485584135601. 1

485584135602. 2

485584135603. 3

485584135604. 4

Question Number : 536 Question Id : 48558433901 Question Type : MCQ Option Shuffling : No Is Question Mandatory : No Calculator : None Response Time : N.A Think Time : N.A Minimum Instruction Time : 0

Correct Marks : 5 Wrong Marks : 1

Question Key Details :

Key	Value
Comprehension	MCQ

निम्न में से कौन सा संमलम्ब चतुर्भुज (Trapezium) कहलाता है?

1. सभी भुजाएँ बराबर हो
2. आमने-सामने की समांतर भुजाएँ बराबर हो
3. आमने-सामने की भुजा-युग्म समांतर हो तथा अन्य (दूसरी) भुजा-युग्म असमांतर हो।
4. साथ वाली भुजा-युग्म बराबर हो

Options :

485584135601. 1
485584135602. 2
485584135603. 3
485584135604. 4

Question Number : 537 Question Id : 48558433902 Question Type : MCQ Option Shuffling : No Is Question Mandatory : No Calculator : None Response Time : N.A Think Time : N.A Minimum Instruction Time : 0

Correct Marks : 5 Wrong Marks : 1

Question Key Details :

Key	Value
Comprehension	MCQ

From a well shuffled pack of 52 cards, three cards are drawn one by one. The probability that the three cards are Jack, Queen and King respectively?

1. $\frac{11}{1105}$
2. $\frac{8}{16575}$
3. $\frac{27}{2197}$
4. $\frac{27}{305}$

Options :

485584135605. 1
485584135606. 2
485584135607. 3
485584135608. 4

Question Number : 537 Question Id : 48558433902 Question Type : MCQ Option Shuffling : No Is Question Mandatory : No Calculator : None Response Time : N.A Think Time : N.A Minimum Instruction Time : 0

Correct Marks : 5 Wrong Marks : 1

Question Key Details :

Key	Value
Comprehension	MCQ

अच्छे से मिलाये (फेंटें) हुए 52 पत्रों में से, तिन पत्रों को एक-एक कर निकाला जाता है। पत्रों के क्रमशः गुलाम, रानी और राजा होने की प्रायिकता क्या है?

1. $\frac{11}{1105}$

2. $\frac{8}{16575}$

3. $\frac{27}{2197}$

4. $\frac{27}{305}$

Options :

485584135605. 1

485584135606. 2

485584135607. 3

485584135608. 4

Question Number : 538 Question Id : 48558433903 Question Type : MCQ Option Shuffling : No Is Question Mandatory : No Calculator : None Response Time : N.A Think Time : N.A Minimum Instruction Time : 0

Correct Marks : 5 Wrong Marks : 1

Question Key Details :

Key	Value
Comprehension	MCQ

Two unbiased coins are tossed. What is the probability of getting one head and one tail?

1. $\frac{1}{2}$

2. $\frac{1}{3}$

3. $\frac{1}{4}$

4. 1

Options :

485584135609. 1

485584135610. 2

485584135611. 3

485584135612. 4

Question Number : 538 Question Id : 48558433903 Question Type : MCQ Option Shuffling : No Is Question Mandatory : No Calculator : None Response Time : N.A Think Time : N.A Minimum Instruction Time : 0

Correct Marks : 5 Wrong Marks : 1

Question Key Details :

Key	Value
Comprehension	MCQ

दो निष्पक्ष सिक्कों को उछाला गया। एक चित्र और एक पट आने की प्रायिकता है?

1. $\frac{1}{2}$

2. $\frac{1}{3}$

3. $\frac{1}{4}$

4. 1

Options :

485584135609. 1

485584135610. 2

485584135611. 3

485584135612. 4

Question Number : 539 Question Id : 48558433904 Question Type : MCQ Option Shuffling : No Is Question Mandatory : No Calculator : None Response Time : N.A Think Time : N.A Minimum Instruction Time : 0

Correct Marks : 5 Wrong Marks : 1

Question Key Details :

Key	Value
Comprehension	MCQ

If the manufacturer gains 10%, the wholesale dealer gains 15% and the retailer gains 25%, then find the cost of production of a table, if the retails price of which is ₹1265?

1. ₹1000

2. ₹900

3. ₹800

4. ₹700

Options :

485584135613. 1

485584135614. 2

485584135615. 3

485584135616. 4

Question Number : 539 Question Id : 48558433904 Question Type : MCQ Option Shuffling : No Is Question Mandatory : No Calculator : None Response Time : N.A Think Time : N.A Minimum Instruction Time : 0

Correct Marks : 5 Wrong Marks : 1

Question Key Details :

Key	Value
Comprehension	MCQ

यदि उत्पादक को 10% लाभ होता है। थोक विक्रेता को 15% लाभ और खुदरा विक्रेता को 25% लाभ होता है। यदि टेबल का खुदरा विक्रय मुल्य ₹1265 है, तो उत्पादन मुल्य (लागत मुल्य) क्या है?

1. ₹1000
2. ₹900
3. ₹800
4. ₹700

Options :

485584135613. 1
485584135614. 2
485584135615. 3
485584135616. 4

Question Number : 540 Question Id : 48558433905 Question Type : MCQ Option Shuffling : No Is Question Mandatory : No Calculator : None Response Time : N.A Think Time : N.A Minimum Instruction Time : 0

Correct Marks : 5 Wrong Marks : 1

Question Key Details :

Key	Value
Comprehension	MCQ

In what ratio must a shopkeeper mix peas and soyabean of ₹16 and ₹25 per kg respectively, so as to obtain a mixture of ₹19 per kg?

1. 2 : 1
2. 7 : 5
3. 11 : 7
4. 13 : 8

Options :

485584135617. 1
485584135618. 2
485584135619. 3
485584135620. 4

Question Number : 540 Question Id : 48558433905 Question Type : MCQ Option Shuffling : No Is Question Mandatory : No Calculator : None Response Time : N.A Think Time : N.A Minimum Instruction Time : 0

Correct Marks : 5 Wrong Marks : 1

Question Key Details :

Key	Value
Comprehension	MCQ

एक दुकानदार किस अनुपात में मटर के दाने और सोयाबिन जिनका मुल्य क्रमशः ₹16 और ₹25 प्रति किलोग्राम है को मिलायेगा कि मिश्रण का मुल्य ₹19 प्रति किलोग्राम प्राप्त हो?

1. 2 : 1

2. 7 : 5

3. 11 : 7

4. 13 : 8

Options :

485584135617. 1

485584135618. 2

485584135619. 3

485584135620. 4

Question Number : 541 Question Id : 48558433906 Question Type : MCQ Option Shuffling : No Is Question Mandatory : No Calculator : None Response Time : N.A Think Time : N.A Minimum Instruction Time : 0

Correct Marks : 5 Wrong Marks : 1

Question Key Details :

Key	Value
Comprehension	MCQ

Find the missing term

1, 4, 27, 16, ?, 36, 343

1. 25

2. 87

3. 120

4. 125

Options :

485584135621. 1

485584135622. 2

485584135623. 3

485584135624. 4

Question Number : 541 Question Id : 48558433906 Question Type : MCQ Option Shuffling : No Is Question Mandatory : No Calculator : None Response Time : N.A Think Time : N.A Minimum Instruction Time : 0

Correct Marks : 5 Wrong Marks : 1

Question Key Details :

Key	Value
Comprehension	MCQ

छुटा हुआ पद (संख्या) ज्ञात करें।

1, 4, 27, 16, ?, 36, 343

1. 25

2. 87

3. 120

4. 125

Options :

485584135621. 1

485584135622. 2

485584135623. 3

485584135624. 4

Question Number : 542 Question Id : 48558433907 Question Type : MCQ Option Shuffling : No Is Question Mandatory : No Calculator : None Response Time : N.A Think Time : N.A Minimum Instruction Time : 0

Correct Marks : 5 Wrong Marks : 1

Question Key Details :

Key	Value
Comprehension	MCQ

From the given statements, what conclusion can be made?

Statements : Some men are wise
All wise are professors

Conclusion I : Some men are professors.
II : All professors are wise

1. Only I follows

2. Only II follows

3. I and II follows

4. Either I or II follows

Options :

485584135625. 1

485584135626. 2

485584135627. 3

485584135628. 4

Question Number : 542 Question Id : 48558433907 Question Type : MCQ Option Shuffling : No Is Question Mandatory : No Calculator : None Response Time : N.A Think Time : N.A Minimum Instruction Time : 0

Correct Marks : 5 Wrong Marks : 1

Question Key Details :

Key	Value
Comprehension	MCQ

दिए गए कथनों से, क्या निष्कर्ष निकलता है?

कथन : कुछ आदमी चतुर है।
सभी चतुर प्रोफेसर है।

निष्कर्ष I : कुछ आदमी प्रोफेसर है।
II : सभी प्रोफेसर चतुर है।

1. सिर्फ I अनुसरण करता है।
2. सिर्फ II अनुसरण करता है।
3. I और II अनुसरण करते है।
4. या तो I यातो II अनुसरण करता है।

Options :

485584135625. 1
485584135626. 2
485584135627. 3
485584135628. 4

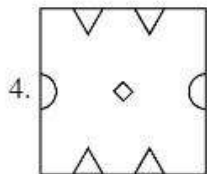
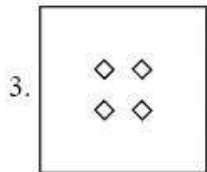
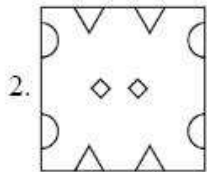
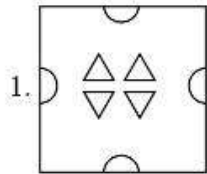
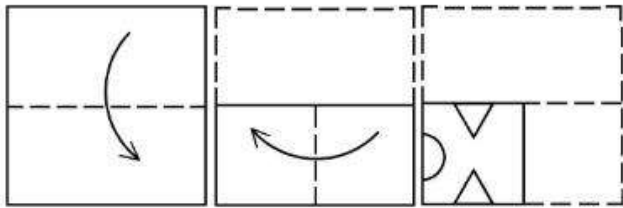
**Question Number : 543 Question Id : 48558433908 Question Type : MCQ Option Shuffling : No Is Question Mandatory :
No Calculator : None Response Time : N.A Think Time : N.A Minimum Instruction Time : 0**

Correct Marks : 5 Wrong Marks : 1

Question Key Details :

Key	Value
Comprehension	MCQ

A piece of paper is folded and a cut is made as shown below. How it will appear when opened?



Options :

- 485584135629. 1
- 485584135630. 2
- 485584135631. 3
- 485584135632. 4

Question Number : 543 Question Id : 48558433908 Question Type : MCQ Option Shuffling : No Is Question Mandatory : No Calculator : None Response Time : N.A Think Time : N.A Minimum Instruction Time : 0

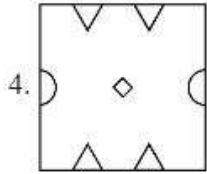
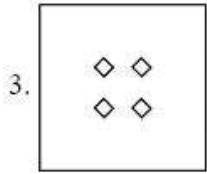
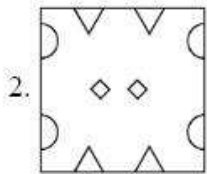
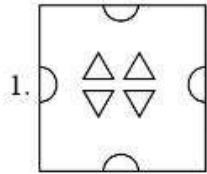
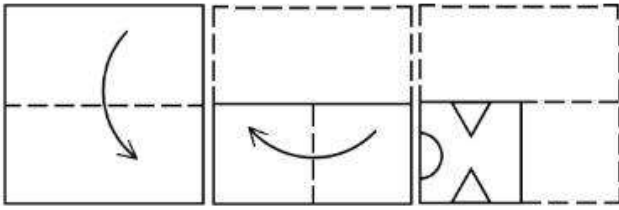
Correct Marks : 5 Wrong Marks : 1

Question Key Details :

Key	Value
Comprehension	MCQ

एक कागज के टुकड़े को चित्रानुसार मोड़ा जाता है और दिए गए चित्रानुसार एक बार काटा जाता है?

इसको खोलने पर यह कैसा दिखाई देगा?



Options :

485584135629. 1

485584135630. 2

485584135631. 3

485584135632. 4

Question Number : 544 Question Id : 48558433909 Question Type : MCQ Option Shuffling : No Is Question Mandatory : No Calculator : None Response Time : N.A Think Time : N.A Minimum Instruction Time : 0

Correct Marks : 5 Wrong Marks : 1

Question Key Details :

Key	Value
Comprehension	MCQ

Manish goes 8 km in the North from his school. Now, turning to the left, he goes 15 km and again turns to the left and goes to 8 km. How far he is from his school and in which direction?

1. 15 km, South from school
2. 8 km, North from school
3. 8 km, West from school
4. 15 km, West from school

Options :

485584135633. 1
485584135634. 2
485584135635. 3
485584135636. 4

Question Number : 544 Question Id : 48558433909 Question Type : MCQ Option Shuffling : No Is Question Mandatory : No Calculator : None Response Time : N.A Think Time : N.A Minimum Instruction Time : 0

Correct Marks : 5 Wrong Marks : 1

Question Key Details :

Key	Value
Comprehension	MCQ

मनिष अपने विद्यालय से 8 km उत्तर में जाता है, फिर बाई दिशा में मुड़कर 15 km यात्रा करता है और फिर से बाई तरफ मुड़कर 8 km जाता है। अब वह अपने विद्यालय से कितनी दूर है और किस दिशा में है ?

1. 15 km, विद्यालय से दक्षिण
2. 8 km, विद्यालय से उत्तर
3. 8 km, विद्यालय से पश्चिम
4. 15 km, विद्यालय से पश्चिम

Options :

485584135633. 1
485584135634. 2
485584135635. 3
485584135636. 4

Question Number : 545 Question Id : 48558433910 Question Type : MCQ Option Shuffling : No Is Question Mandatory : No Calculator : None Response Time : N.A Think Time : N.A Minimum Instruction Time : 0

Correct Marks : 5 Wrong Marks : 1

Question Key Details :

Key	Value
Comprehension	MCQ

Among P, Q, R, S, T, each having different weight, R is heavier than only P and S is lighter than Q and heavier than T. Who among them is the heaviest?

1. P
2. Q
3. S
4. T

Options :

485584135637. 1
485584135638. 2
485584135639. 3
485584135640. 4

Question Number : 545 Question Id : 48558433910 Question Type : MCQ Option Shuffling : No Is Question Mandatory : No Calculator : None Response Time : N.A Think Time : N.A Minimum Instruction Time : 0

Correct Marks : 5 Wrong Marks : 1

Question Key Details :

Key	Value
Comprehension	MCQ

P, Q, R, S, T में से सभी का भार अलग-अलग है। R सिर्फ P से ज्यादा भारी है और S, Q से हलका तथा T से ज्यादा भारी है। निम्न में कौन सबसे ज्यादा भारी है?

1. P
2. Q
3. S
4. T

Options :

485584135637. 1
485584135638. 2
485584135639. 3
485584135640. 4

Question Number : 546 Question Id : 48558433911 Question Type : MCQ Option Shuffling : No Is Question Mandatory : No Calculator : None Response Time : N.A Think Time : N.A Minimum Instruction Time : 0

Correct Marks : 5 Wrong Marks : 1

Question Key Details :

Key	Value
Comprehension	MCQ

First two words are related in a certain way in:

Transition : Change :: Immobility : ?

Identify the suitable word in place of ? so that third and fourth words also become relatable the some manner.

1. Stillness
2. Liveliness
3. Action
4. Busyness

Options :

485584135641. 1
485584135642. 2
485584135643. 3
485584135644. 4

Question Number : 546 Question Id : 48558433911 Question Type : MCQ Option Shuffling : No Is Question Mandatory : No Calculator : None Response Time : N.A Think Time : N.A Minimum Instruction Time : 0

Correct Marks : 5 Wrong Marks : 1

Question Key Details :

Key	Value
Comprehension	MCQ

पहले दो शब्द जिस प्रकार सम्बंधित है उसी प्रकार अगले दो शब्द के सम्बन्ध बनाने के लिए सही विकल्प चुनीए।

निरूपण : बदलाव : निश्चलता

1. निश्चष्टता
2. जीवंतता
3. कार्यवाही
4. व्यस्तता

Options :

485584135641. 1
485584135642. 2
485584135643. 3
485584135644. 4

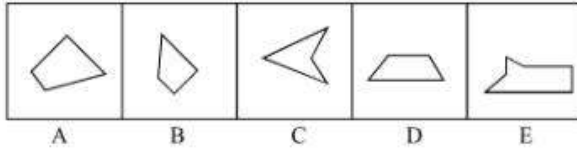
Question Number : 547 Question Id : 48558433912 Question Type : MCQ Option Shuffling : No Is Question Mandatory : No Calculator : None Response Time : N.A Think Time : N.A Minimum Instruction Time : 0

Correct Marks : 5 Wrong Marks : 1

Question Key Details :

Key	Value
Comprehension	MCQ

Which three of the given can be added to get a rectangular figure?



1. A, B, C

2. B, C, E

3. B, D, E

4. A, D, E

Options :

485584135645. 1

485584135646. 2

485584135647. 3

485584135648. 4

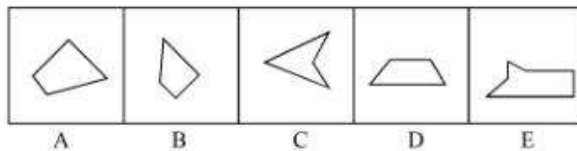
Question Number : 547 Question Id : 48558433912 Question Type : MCQ Option Shuffling : No Is Question Mandatory : No Calculator : None Response Time : N.A Think Time : N.A Minimum Instruction Time : 0

Correct Marks : 5 Wrong Marks : 1

Question Key Details :

Key	Value
Comprehension	MCQ

निम्न में से किस-किस को जोड़ने पर आयताकार आकृति प्राप्त किया जा सकता है?



1. A, B, C

2. B, C, E

3. B, D, E

4. A, D, E

Options :

485584135645. 1

485584135646. 2

485584135647. 3

485584135648. 4

Question Number : 548 Question Id : 48558433913 Question Type : MCQ Option Shuffling : No Is Question Mandatory : No Calculator : None Response Time : N.A Think Time : N.A Minimum Instruction Time : 0

Correct Marks : 5 Wrong Marks : 1

Question Key Details :

Key	Value
Comprehension	MCQ

January 11, 1997 was a Sunday. What day of the week was on January 7, 2000?

1. Sunday
2. Monday
3. Saturday
4. Tuesday

Options :

485584135649. 1
485584135650. 2
485584135651. 3
485584135652. 4

Question Number : 548 Question Id : 48558433913 Question Type : MCQ Option Shuffling : No Is Question Mandatory : No Calculator : None Response Time : N.A Think Time : N.A Minimum Instruction Time : 0

Correct Marks : 5 Wrong Marks : 1

Question Key Details :

Key	Value
Comprehension	MCQ

11 जनवरी 1997 को रविवार था 7 जनवरी, 2000 को सप्ताह का कौन सा दिन था?

1. रविवार
2. सोमवार
3. शनिवार
4. गुरुवार

Options :

485584135649. 1
485584135650. 2
485584135651. 3
485584135652. 4


Question Number : 549 Question Id : 48558433914 Question Type : MCQ Option Shuffling : No Is Question Mandatory : No Calculator : None Response Time : N.A Think Time : N.A Minimum Instruction Time : 0

Correct Marks : 5 Wrong Marks : 1

Question Key Details :

Key	Value
Comprehension	MCQ

Choose the correct mirror image of the following:



1

2

3

4

1. 1

2. 2

3. 3

4. 4

Options :

- 485584135653. 1
- 485584135654. 2
- 485584135655. 3
- 485584135656. 4

Question Number : 549 Question Id : 48558433914 Question Type : MCQ Option Shuffling : No Is Question Mandatory : No Calculator : None Response Time : N.A Think Time : N.A Minimum Instruction Time : 0

Correct Marks : 5 Wrong Marks : 1

Question Key Details :

Key	Value
Comprehension	MCQ

निम्न आकृति का सही दर्पण प्रतिबिम्ब चुनें।



1

2

3

4

1. 1

2. 2

3. 3

4. 4

Options :

485584135653. 1

485584135654. 2

485584135655. 3

485584135656. 4

Question Number : 550 Question Id : 48558433915 Question Type : MCQ Option Shuffling : No Is Question Mandatory : No Calculator : None Response Time : N.A Think Time : N.A Minimum Instruction Time : 0

Correct Marks : 5 Wrong Marks : 1

Question Key Details :

Key	Value
Comprehension	MCQ

Choose odd one out from the following:

1. Copper

2. Iron

3. Aluminium

4. Bromine

Options :

485584135657. 1

485584135658. 2

485584135659. 3

485584135660. 4

Question Number : 550 Question Id : 48558433915 Question Type : MCQ Option Shuffling : No Is Question Mandatory : No Calculator : None Response Time : N.A Think Time : N.A Minimum Instruction Time : 0

Correct Marks : 5 Wrong Marks : 1

Question Key Details :

Key	Value
Comprehension	MCQ

निम्न में से विषम का चन करें।

1. ताम्बा (Copper)
2. लोहा (Iron)
3. एल्युमिनियम (Aluminium)
4. ब्रोमिन (Bromine)

Options :

485584135657. 1
485584135658. 2
485584135659. 3
485584135660. 4

Question Number : 551 Question Id : 48558433916 Question Type : MCQ Option Shuffling : No Is Question Mandatory : No Calculator : None Response Time : N.A Think Time : N.A Minimum Instruction Time : 0

Correct Marks : 5 Wrong Marks : 1

Question Key Details :

Key	Value
Comprehension	MCQ

Study the following sequence and then answer the question given below:

9 H 7 Z A 9 2 B C H 3 1 X W V 5 T 4 M 6 0 Q 8 F J.

If every fourth letter/number in the above sequence starting from 7 is eliminated, which of the following will be fifth letter/number to the left of the 12th position from your right?

1. H
2. Z
3. A
4. C

Options :

485584135661. 1
485584135662. 2
485584135663. 3
485584135664. 4

Question Number : 551 Question Id : 48558433916 Question Type : MCQ Option Shuffling : No Is Question Mandatory : No Calculator : None Response Time : N.A Think Time : N.A Minimum Instruction Time : 0

Correct Marks : 5 Wrong Marks : 1

Question Key Details :

Key	Value
-----	-------

नीचे दिए गए अनुक्रम को पढ़ें तथा उसके पश्चात नीचे लिखे प्रश्नों के उत्तर दीजिए:

9 H 7 Z A 9 2 B C H 3 1 X W V 5 T 4 M 6 0 Q 8 F J.

यदि उपरोक्त क्रम में 7 से शुरू होने वाले प्रत्येक चौथे अक्षर/संख्या को हटा दिया जाए, तो निम्नलिखित में से कौन-सा आपके दाये से 12 वें स्थान के बाये से पाचवां अक्षर/संख्या होगा।

1. H
2. Z
3. A
4. C

Options :

485584135661. 1
485584135662. 2
485584135663. 3
485584135664. 4

Question Number : 552 Question Id : 48558433917 Question Type : MCQ Option Shuffling : No Is Question Mandatory : No Calculator : None Response Time : N.A Think Time : N.A Minimum Instruction Time : 0

Correct Marks : 5 Wrong Marks : 1

Question Key Details :

Key	Value
Comprehension	MCQ

If you are head of your office, some media people come to your office and request you brief them about the pension plan of your office, you will:

1. Ask the media people to come some other day
2. Immediately accept the offer and brief them
3. Get them turned out of your office
4. Ask them to wait and to consult the official concerned

Options :

485584135665. 1
485584135666. 2
485584135667. 3
485584135668. 4

Question Number : 552 Question Id : 48558433917 Question Type : MCQ Option Shuffling : No Is Question Mandatory : No Calculator : None Response Time : N.A Think Time : N.A Minimum Instruction Time : 0

Correct Marks : 5 Wrong Marks : 1

Question Key Details :

Key	Value
Comprehension	MCQ

यदि आप कार्यालय प्रमुख है, और आपके कार्यालय में कुछ मीडिया के लोग आए हैं, जो आपके कार्यालय की पेंशन योजना की संक्षिप्त जानकारी प्राप्त करने हेतु निवेदन करते हैं, तो आप क्या करेंगे।

1. मीडिया कर्मियों को किसी अन्य दिन आने को कहेंगे।
2. उनके प्रस्ताव को तुरंत स्वीकार करेंगे तथा उन्हें समझाएंगे।
3. उन्हें अपने कार्यालय से बाहर निकाल देंगे।
4. उन्हें इंतजार करने के लिए कहेंगे तथा संबंधित अधिकारी से परामर्श लेंगे।

Options :

485584135665. 1
485584135666. 2
485584135667. 3
485584135668. 4

Question Number : 553 Question Id : 48558433918 Question Type : MCQ Option Shuffling : No Is Question Mandatory : No Calculator : None Response Time : N.A Think Time : N.A Minimum Instruction Time : 0

Correct Marks : 5 Wrong Marks : 1

Question Key Details :

Key	Value
Comprehension	MCQ

In a certain code, COMPUTER is coded as ETUPMOCR. How is INACTIVE written in the same code?

1. VITCANIE
2. VICTNAII
3. VICTANIF
4. VITCANIG

Options :

485584135669. 1
485584135670. 2
485584135671. 3
485584135672. 4

Question Number : 553 Question Id : 48558433918 Question Type : MCQ Option Shuffling : No Is Question Mandatory : No Calculator : None Response Time : N.A Think Time : N.A Minimum Instruction Time : 0

Correct Marks : 5 Wrong Marks : 1

Question Key Details :

Key	Value
Comprehension	MCQ

एक निश्चित कोड में, COMPUTER को ETUPMOCR के रूप में कोड किया जाता है तो उसी कोड के अनुसार INACTIVE किस प्रकार लिखा जाएगा।

1. VITCANIE
2. VICTNAII
3. VICTANIF
4. VITCANIG

Options :

485584135669. 1
485584135670. 2
485584135671. 3
485584135672. 4

Question Number : 554 Question Id : 48558433919 Question Type : MCQ Option Shuffling : No Is Question Mandatory : No Calculator : None Response Time : N.A Think Time : N.A Minimum Instruction Time : 0

Correct Marks : 5 Wrong Marks : 1

Question Key Details :

Key	Value
Comprehension	MCQ

Select the figure from amongst the four alternatives, which when place in the blank space would complete the pattern?

×		×		×	
	×		×		×
×		×		×	
#		#			
	#				
#		#			

1.

#	#	#
	#	

2.

	#	
#		#
	#	

3.

#		#
#		#

4.

	#	
	#	
	#	

Options :

- 485584135673. 1
- 485584135674. 2
- 485584135675. 3
- 485584135676. 4

Question Number : 554 Question Id : 48558433919 Question Type : MCQ Option Shuffling : No Is Question Mandatory : No Calculator : None Response Time : N.A Think Time : N.A Minimum Instruction Time : 0

Correct Marks : 5 Wrong Marks : 1

Question Key Details :

Key	Value
Comprehension	MCQ

नीचे दिए गए चार विकल्पों में से किसी एक आकृति का चुनाव कीजिए, जिसे रिक्त स्थान पर रखने पर दिया गया पैटर्न पूरा हो जाए।

×		×		×	
	×		×		×
×		×		×	
#		#			
	#				
#		#			

1.

#	#	#
	#	

2.

	#	
#		#
	#	

3.

#		#
#		#

4.

	#	
	#	
	#	

Options :

- 485584135673. 1
- 485584135674. 2
- 485584135675. 3
- 485584135676. 4

Question Number : 555 Question Id : 48558433920 Question Type : MCQ Option Shuffling : No Is Question Mandatory : No Calculator : None Response Time : N.A Think Time : N.A Minimum Instruction Time : 0

Correct Marks : 5 Wrong Marks : 1

Question Key Details :

Key	Value
Comprehension	MCQ

Rajni ranked 9th from the top and 38th from the bottom in a class. How many students are there in the class?

1. 46
2. 47
3. 45
4. 44

Options :

485584135677. 1
485584135678. 2
485584135679. 3
485584135680. 4

Question Number : 555 Question Id : 48558433920 Question Type : MCQ Option Shuffling : No Is Question Mandatory : No Calculator : None Response Time : N.A Think Time : N.A Minimum Instruction Time : 0

Correct Marks : 5 Wrong Marks : 1

Question Key Details :

Key	Value
Comprehension	MCQ

रजनी अपनी कक्षा में शीर्ष (टॉप) से नौवे पद पर तथा नीचे से 38 वें पद पर आती है। उसकी कक्षा में कुल कितने विद्यार्थी हैं।

1. 46
2. 47
3. 45
4. 44

Options :

485584135677. 1
485584135678. 2
485584135679. 3
485584135680. 4

Question Number : 556 Question Id : 48558433921 Question Type : MCQ Option Shuffling : No Is Question Mandatory : No Calculator : None Response Time : N.A Think Time : N.A Minimum Instruction Time : 0

Correct Marks : 5 Wrong Marks : 1

Question Key Details :

Key	Value
Comprehension	MCQ

The following two numbers are connected by some relationship:

82 : 9

Identify the suitable pair to which the same relationship is applicable.

1. 5 : 26

2. 6 : 37

3. 35 : 6

4. 26 : 5

Options :

485584135681. 1

485584135682. 2

485584135683. 3

485584135684. 4

Question Number : 556 Question Id : 48558433921 Question Type : MCQ Option Shuffling : No Is Question Mandatory : No Calculator : None Response Time : N.A Think Time : N.A Minimum Instruction Time : 0

Correct Marks : 5 Wrong Marks : 1

Question Key Details :

Key	Value
Comprehension	MCQ

निम्नलिखित दो संख्याएं किसी विशिष्ट संबंध के द्वारा एक दूसरे से जुड़ी है:

82 : 9

उस उपयुक्त युग्म की पहचान करें जिसके लिए समान संबंध लागू होता है।

1. 5 : 26

2. 6 : 37

3. 35 : 6

4. 26 : 5

Options :

485584135681. 1

485584135682. 2

485584135683. 3

485584135684. 4

Question Number : 557 Question Id : 48558433922 Question Type : MCQ Option Shuffling : No Is Question Mandatory : No Calculator : None Response Time : N.A Think Time : N.A Minimum Instruction Time : 0

Correct Marks : 5 Wrong Marks : 1

Question Key Details :

Key	Value
Comprehension	MCQ

P and Q are married couple. A and B are brothers. A is the brother of P. How is B related to Q?

1. Brother-in-law
2. Cousin
3. Son
4. Brother

Options :

485584135685. 1
485584135686. 2
485584135687. 3
485584135688. 4

Question Number : 557 Question Id : 48558433922 Question Type : MCQ Option Shuffling : No Is Question Mandatory : No Calculator : None Response Time : N.A Think Time : N.A Minimum Instruction Time : 0

Correct Marks : 5 Wrong Marks : 1

Question Key Details :

Key	Value
Comprehension	MCQ

P और Q एक विवाहित जोड़ा है। A और B भाई हैं। A, P का भाई है। तो B का Q से क्या संबंध है?

1. देवर
2. चचेरा भाई/ बहन
3. बेटा
4. भाई

Options :

485584135685. 1
485584135686. 2
485584135687. 3
485584135688. 4

Question Number : 558 Question Id : 48558433923 Question Type : MCQ Option Shuffling : No Is Question Mandatory : No Calculator : None Response Time : N.A Think Time : N.A Minimum Instruction Time : 0

Correct Marks : 5 Wrong Marks : 1

Question Key Details :

Key	Value
Comprehension	MCQ

Below mentioned question consists of a statement followed by two arguments I and II.

Statement : Should 'education' be brought under the control of the Central Government like defence?

Argument I : No. Education is a state subject and it should remain with state.

II : Yes. This is the only way to establish uniformity in a growth of education across the states.

1. Only argument I is strong
2. Only argument II is strong.
3. Either I or II is strong
4. Neither I nor II is strong

Options :

485584135689. 1
485584135690. 2
485584135691. 3
485584135692. 4

Question Number : 558 Question Id : 48558433923 Question Type : MCQ Option Shuffling : No Is Question Mandatory : No Calculator : None Response Time : N.A Think Time : N.A Minimum Instruction Time : 0

Correct Marks : 5 Wrong Marks : 1

Question Key Details :

Key	Value
Comprehension	MCQ

नीचे दिए गए प्रश्न में एक कथन का निर्माण किया गया है, जिसके बाद दो तर्क दिए गए हैं।

कथन : क्या शिक्षा को भी रक्षा क्षेत्र की भांति केंद्रीय सरकार द्वारा नियंत्रित किया जाना चाहिए?

तर्क I : नहीं, शिक्षा राज्य सरकार का विषय है और इसे राज्य सरकार में ही रहना चाहिए।

II : हाँ, सभी राज्यों में शिक्षा के विकास में एकरूपता बनाने के लिए यही एक तरीका है।

निम्नलिखित में से उचित विकल्प का चुनाव कीजिए।

1. केवल तर्क I मजबूत है
2. केवल तर्क II मजबूत है
3. या I या II मजबूत है
4. ना I नाही II मजबूत है

Options :

485584135689. 1
485584135690. 2
485584135691. 3
485584135692. 4

Question Number : 559 Question Id : 48558433924 Question Type : MCQ Option Shuffling : No Is Question Mandatory : No Calculator : None Response Time : N.A Think Time : N.A Minimum Instruction Time : 0

Correct Marks : 5 Wrong Marks : 1

Question Key Details :

Key	Value
-----	-------

Comprehension	MCQ
---------------	-----

Choose the correct option on the basis of the following statements and conclusions.

Statement : Morning walks are good for health.

Conclusion I : All healthy people go for morning walks.

II : Evening walks are harmful.

1. Only conclusion I follow
2. Only conclusion II follow
3. Both I and II follow
4. Neither I nor II follow

Options :

485584135693. 1
485584135694. 2
485584135695. 3
485584135696. 4

Question Number : 559 Question Id : 48558433924 Question Type : MCQ Option Shuffling : No Is Question Mandatory : No Calculator : None Response Time : N.A Think Time : N.A Minimum Instruction Time : 0

Correct Marks : 5 Wrong Marks : 1

Question Key Details :

Key	Value
Comprehension	MCQ

निम्नलिखित कथन और निष्कर्षों में से उचित विकल्प का चुनाव कीजिए।

कथन : प्रातः कालीन सैर स्वास्थ्य के लिए लाभदायक होती है।

निष्कर्ष I : सभी स्वस्थ मनुष्य प्रातः कालीन सैर के लिए जाते हैं।

II : सायं कालीन सैर नुकसानदायक है।

1. केवल निष्कर्ष I अनुसरण करता है।
2. केवल निष्कर्ष II अनुसरण करता है।
3. दोनों I और II अनुसरण करते हैं।
4. ना तो I और ना ही II अनुसरण करते हैं।

Options :

485584135693. 1
485584135694. 2
485584135695. 3
485584135696. 4

Question Number : 560 Question Id : 48558433925 Question Type : MCQ Option Shuffling : No Is Question Mandatory : No Calculator : None Response Time : N.A Think Time : N.A Minimum Instruction Time : 0

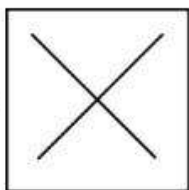
Correct Marks : 5 Wrong Marks : 1

Question Key Details :

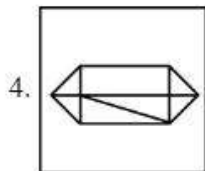
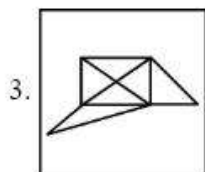
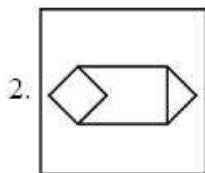
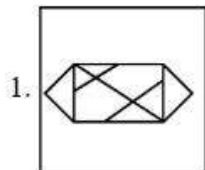
Key	Value
Comprehension	MCQ

In which option problem figure is embedded :

Problem Figure :



Answer Figure:



Options :

- 485584135697. 1
- 485584135698. 2
- 485584135699. 3
- 485584135700. 4

Question Number : 560 Question Id : 48558433925 Question Type : MCQ Option Shuffling : No Is Question Mandatory : No Calculator : None Response Time : N.A Think Time : N.A Minimum Instruction Time : 0

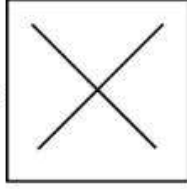
Correct Marks : 5 Wrong Marks : 1

Question Key Details :

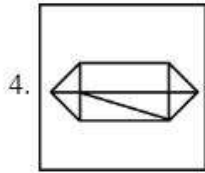
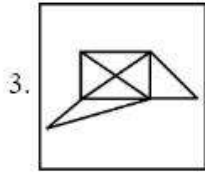
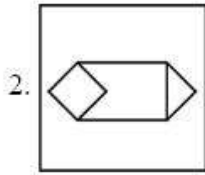
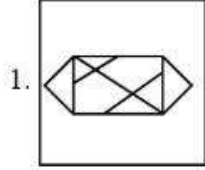
Key	Value
Comprehension	MCQ

किस विकल्प में नीचे दि गई आकृति छिपी हुई है।

समस्यात्मक चित्र :



उत्तर चित्र:



Options :

485584135697. 1

485584135698. 2

485584135699. 3

485584135700. 4

Question Number : 561 Question Id : 48558433926 Question Type : MCQ Option Shuffling : No Is Question Mandatory : No Calculator : None Response Time : N.A Think Time : N.A Minimum Instruction Time : 0

Correct Marks : 5 Wrong Marks : 1

Question Key Details :

Key	Value
Comprehension	MCQ

Which city does not have Jantar Mantar observatories built by Jai Singh II in the early 18th century?

1. Jaipur
2. New Delhi
3. Agra
4. Ujjain

Options :

485584135701. 1
485584135702. 2
485584135703. 3
485584135704. 4

Question Number : 561 Question Id : 48558433926 Question Type : MCQ Option Shuffling : No Is Question Mandatory : No Calculator : None Response Time : N.A Think Time : N.A Minimum Instruction Time : 0

Correct Marks : 5 Wrong Marks : 1

Question Key Details :

Key	Value
Comprehension	MCQ

किस शहर में 18वीं शताब्दी के प्रारम्भ में जय सिंह II द्वारा निर्मित जंतर-मंतर वेधशाला नहीं है?

1. जयपुर
2. नई दिल्ली
3. अगरा
4. उज्जैन

Options :

485584135701. 1
485584135702. 2
485584135703. 3
485584135704. 4

Question Number : 562 Question Id : 48558433927 Question Type : MCQ Option Shuffling : No Is Question Mandatory : No Calculator : None Response Time : N.A Think Time : N.A Minimum Instruction Time : 0

Correct Marks : 5 Wrong Marks : 1

Question Key Details :

Key	Value
Comprehension	MCQ

Who founded the Pala empire?

1. Dharmपाल
2. Gopala
3. Jayadeva
4. Senpala

Options :

485584135705. 1
485584135706. 2
485584135707. 3
485584135708. 4

Question Number : 562 Question Id : 48558433927 Question Type : MCQ Option Shuffling : No Is Question Mandatory : No Calculator : None Response Time : N.A Think Time : N.A Minimum Instruction Time : 0

Correct Marks : 5 Wrong Marks : 1

Question Key Details :

Key	Value
Comprehension	MCQ

पाल राज्य किसने स्थायित किया

1. धर्मपाल
2. गोपाल
3. जयदेव
4. सेन पाल

Options :

485584135705. 1
485584135706. 2
485584135707. 3
485584135708. 4

Question Number : 563 Question Id : 48558433928 Question Type : MCQ Option Shuffling : No Is Question Mandatory : No Calculator : None Response Time : N.A Think Time : N.A Minimum Instruction Time : 0

Correct Marks : 5 Wrong Marks : 1

Question Key Details :

Key	Value
Comprehension	MCQ

Alai Darwaja was built by:

1. Muhammad - bin - Tughlaq
2. Ala-ud-din Khilji
3. Amir Khusro
4. Iltilhmish

Options :

485584135709. 1
485584135710. 2
485584135711. 3
485584135712. 4

Question Number : 563 Question Id : 48558433928 Question Type : MCQ Option Shuffling : No Is Question Mandatory : No Calculator : None Response Time : N.A Think Time : N.A Minimum Instruction Time : 0

Correct Marks : 5 Wrong Marks : 1

Question Key Details :

Key	Value
Comprehension	MCQ

'अलाई दरवाजा' निर्मित किया गया _____ के द्वार

1. मोहम्मद-बिन-तुगलक
2. अल्लीउद्दीन-खिलजी
3. अमीर खुसरो
4. इल्तुमोश

Options :

485584135709. 1
485584135710. 2
485584135711. 3
485584135712. 4

Question Number : 564 Question Id : 48558433929 Question Type : MCQ Option Shuffling : No Is Question Mandatory : No Calculator : None Response Time : N.A Think Time : N.A Minimum Instruction Time : 0

Correct Marks : 5 Wrong Marks : 1

Question Key Details :

Key	Value
Comprehension	MCQ

Who found 'Ramakrishna Mission'?

1. Mahatma Gandhi
2. B.R. Ambedkar
3. Swami Vivekananda
4. Swami Dayanand Saraswati

Options :

485584135713. 1
485584135714. 2
485584135715. 3
485584135716. 4

Question Number : 564 Question Id : 48558433929 Question Type : MCQ Option Shuffling : No Is Question Mandatory : No Calculator : None Response Time : N.A Think Time : N.A Minimum Instruction Time : 0

Correct Marks : 5 Wrong Marks : 1

Question Key Details :

Key	Value
Comprehension	MCQ

'रामाकृष्णन मिशन' को स्थापना किसने की?

1. महात्मा गांधी
2. बी. आर. अम्बेडकर
3. स्वामी विवेकानंद
4. स्वामी दयानंद सरस्वती

Options :

485584135713. 1
485584135714. 2
485584135715. 3
485584135716. 4

Question Number : 565 Question Id : 48558433930 Question Type : MCQ Option Shuffling : No Is Question Mandatory : No Calculator : None Response Time : N.A Think Time : N.A Minimum Instruction Time : 0

Correct Marks : 5 Wrong Marks : 1

Question Key Details :

Key	Value
Comprehension	MCQ

One light year is equals to _____.

1. 9.46×10^{12} km

2. 1.12×10^{10} km

3. 9.00×10^8 km

4. 9.42×10^9 km

Options :

485584135717. 1

485584135718. 2

485584135719. 3

485584135720. 4

Question Number : 565 Question Id : 48558433930 Question Type : MCQ Option Shuffling : No Is Question Mandatory : No Calculator : None Response Time : N.A Think Time : N.A Minimum Instruction Time : 0

Correct Marks : 5 Wrong Marks : 1

Question Key Details :

Key	Value
Comprehension	MCQ

एक प्रकाश वर्ष बराबर होता है _____.

1. 9.46×10^{12} km

2. 1.12×10^{10} km

3. 9.00×10^8 km

4. 9.42×10^9 km

Options :

485584135717. 1

485584135718. 2

485584135719. 3

485584135720. 4

Question Number : 566 Question Id : 48558433931 Question Type : MCQ Option Shuffling : No Is Question Mandatory : No Calculator : None Response Time : N.A Think Time : N.A Minimum Instruction Time : 0

Correct Marks : 5 Wrong Marks : 1

Question Key Details :

Key	Value
Comprehension	MCQ

What is scientific name of 'Horse'?

1. Felis catus
2. Capra hercus
3. Eqqus caballus
4. Nija naja

Options :

485584135721. 1
485584135722. 2
485584135723. 3
485584135724. 4

Question Number : 566 Question Id : 48558433931 Question Type : MCQ Option Shuffling : No Is Question Mandatory : No Calculator : None Response Time : N.A Think Time : N.A Minimum Instruction Time : 0

Correct Marks : 5 Wrong Marks : 1

Question Key Details :

Key	Value
Comprehension	MCQ

'घोडे' का वैज्ञानिक नाम क्या है?

1. फेलिस केवटस
2. केप्रा हिर्कस
3. एक्कस् कैबेलस
4. नाजा नाजा

Options :

485584135721. 1
485584135722. 2
485584135723. 3
485584135724. 4

Question Number : 567 Question Id : 48558433932 Question Type : MCQ Option Shuffling : No Is Question Mandatory : No Calculator : None Response Time : N.A Think Time : N.A Minimum Instruction Time : 0

Correct Marks : 5 Wrong Marks : 1

Question Key Details :

Key	Value
Comprehension	MCQ

The change of gaseous state directly to solid state without going through liquid state is called _____.

1. Solidification
2. Sublimation
3. Deposition
4. Evaporation

Options :

485584135725. 1
485584135726. 2
485584135727. 3
485584135728. 4

Question Number : 567 Question Id : 48558433932 Question Type : MCQ Option Shuffling : No Is Question Mandatory : No Calculator : None Response Time : N.A Think Time : N.A Minimum Instruction Time : 0

Correct Marks : 5 Wrong Marks : 1

Question Key Details :

Key	Value
Comprehension	MCQ

बिना तरलीय स्थिति में लाये गैसीय पदार्थ को सीधा ही ठोस स्थिति में बदलने की प्रक्रिया को कहते हैं _____.

1. सॉलिडीफिकेश
2. सबलीमेशन
3. निक्षेपण
4. एवोपरेशन (वाष्पीकरण)

Options :

485584135725. 1
485584135726. 2
485584135727. 3
485584135728. 4

Question Number : 568 Question Id : 48558433933 Question Type : MCQ Option Shuffling : No Is Question Mandatory : No Calculator : None Response Time : N.A Think Time : N.A Minimum Instruction Time : 0

Correct Marks : 5 Wrong Marks : 1

Question Key Details :

Key	Value
Comprehension	MCQ

Who among the following in Ancient India made some prominent discoveries in Physics?

1. Sushruta
2. Charaka
3. Kanada
4. Nagarjuna

Options :

485584135729. 1
485584135730. 2
485584135731. 3
485584135732. 4

Question Number : 568 Question Id : 48558433933 Question Type : MCQ Option Shuffling : No Is Question Mandatory : No Calculator : None Response Time : N.A Think Time : N.A Minimum Instruction Time : 0

Correct Marks : 5 Wrong Marks : 1

Question Key Details :

Key	Value
Comprehension	MCQ

निम्नलिखित में से किसने प्राचीन भारत में भौतिक विषय संबंधी प्रसिद्ध खोजे की थी?

1. सुश्रुत
2. चार्क
3. कन्दा
4. नागार्जुना

Options :

485584135729. 1
485584135730. 2
485584135731. 3
485584135732. 4

Question Number : 569 Question Id : 48558433934 Question Type : MCQ Option Shuffling : No Is Question Mandatory : No Calculator : None Response Time : N.A Think Time : N.A Minimum Instruction Time : 0

Correct Marks : 5 Wrong Marks : 1

Question Key Details :

Key	Value
Comprehension	MCQ

Honourable Prime Minister of India has led the foundation for manufacturing plant of C-295 Aircraft at _____.

1. Gandhi Nagar
2. Rajkot
3. Surat
4. Vadodara

Options :

485584135733. 1
485584135734. 2
485584135735. 3
485584135736. 4

Question Number : 569 Question Id : 48558433934 Question Type : MCQ Option Shuffling : No Is Question Mandatory : No Calculator : None Response Time : N.A Think Time : N.A Minimum Instruction Time : 0

Correct Marks : 5 Wrong Marks : 1

Question Key Details :

Key	Value
Comprehension	MCQ

भारत के माननीय प्रधानमंत्री ने _____ में C-295 अयस्क्राफ्ट के निर्माण संयंत्र की नींव रखी है _____.

1. गांधी नगर
2. राजकोट
3. सूरत
4. वडोदरा

Options :

485584135733. 1
485584135734. 2
485584135735. 3
485584135736. 4

Question Number : 570 Question Id : 48558433935 Question Type : MCQ Option Shuffling : No Is Question Mandatory : No Calculator : None Response Time : N.A Think Time : N.A Minimum Instruction Time : 0

Correct Marks : 5 Wrong Marks : 1

Question Key Details :

Key	Value
Comprehension	MCQ

In 2022, National conference on e-governance was held in _____.

1. Mumbai
2. Goa
3. New Delhi
4. Kolkata

Options :

485584135737. 1
485584135738. 2
485584135739. 3
485584135740. 4

Question Number : 570 Question Id : 48558433935 Question Type : MCQ Option Shuffling : No Is Question Mandatory : No Calculator : None Response Time : N.A Think Time : N.A Minimum Instruction Time : 0

Correct Marks : 5 Wrong Marks : 1

Question Key Details :

Key	Value
Comprehension	MCQ

सन् 2022 में ई-गवर्नरनेस पर राष्ट्रीय सम्मेलन _____ में हुआ था।

1. मुम्बई
2. गोवा
3. नई दिल्ली
4. कोलकाता

Options :

485584135737. 1
485584135738. 2
485584135739. 3
485584135740. 4

Question Number : 571 Question Id : 48558433936 Question Type : MCQ Option Shuffling : No Is Question Mandatory : No Calculator : None Response Time : N.A Think Time : N.A Minimum Instruction Time : 0

Correct Marks : 5 Wrong Marks : 1

Question Key Details :

Key	Value
Comprehension	MCQ

Naftali Bennett was sworn in as Israel's new Prime Minister on:

1. June 13, 2021
2. May 10, 2021
3. April 20, 2021
4. February, 2021

Options :

485584135741. 1
485584135742. 2
485584135743. 3
485584135744. 4

Question Number : 571 Question Id : 48558433936 Question Type : MCQ Option Shuffling : No Is Question Mandatory : No Calculator : None Response Time : N.A Think Time : N.A Minimum Instruction Time : 0

Correct Marks : 5 Wrong Marks : 1

Question Key Details :

Key	Value
Comprehension	MCQ

नफ्ताली बेनेट को इजराइल के नए प्रधानमंत्री के रूप में _____ को चुना गया।

1. जून 13, 2021
2. मई 10, 2021
3. अप्रैल 20, 2021
4. फरवरी, 2021

Options :

485584135741. 1
485584135742. 2
485584135743. 3
485584135744. 4

Question Number : 572 Question Id : 48558433937 Question Type : MCQ Option Shuffling : No Is Question Mandatory : No Calculator : None Response Time : N.A Think Time : N.A Minimum Instruction Time : 0

Correct Marks : 5 Wrong Marks : 1

Question Key Details :

Key	Value
Comprehension	MCQ

Which of the following country become 11th member of ASEAN?

1. Vietnam
2. East Timor
3. Philippines
4. Laos

Options :

485584135745. 1
485584135746. 2
485584135747. 3
485584135748. 4

Question Number : 572 Question Id : 48558433937 Question Type : MCQ Option Shuffling : No Is Question Mandatory : No Calculator : None Response Time : N.A Think Time : N.A Minimum Instruction Time : 0

Correct Marks : 5 Wrong Marks : 1

Question Key Details :

Key	Value
Comprehension	MCQ

निम्नलिखित में से कौन-सा देश ए.एस.ई.ए.एन (ASEAN) का ग्यारहवां (11 वां) सदस्य बना?

1. वियतनाम
2. ईस्ट तिमोर
3. फिलीपीन
4. लोएस

Options :

485584135745. 1
485584135746. 2
485584135747. 3
485584135748. 4

Question Number : 573 Question Id : 48558433938 Question Type : MCQ Option Shuffling : No Is Question Mandatory : No Calculator : None Response Time : N.A Think Time : N.A Minimum Instruction Time : 0

Correct Marks : 5 Wrong Marks : 1

Question Key Details :

Key	Value
Comprehension	MCQ

Which of the following cities is known as the 'Cashew Capital of the World'?

1. Kozhikode
2. Kurnool
3. Kumbakonam
4. Kollam

Options :

485584135749. 1
485584135750. 2
485584135751. 3
485584135752. 4

Question Number : 573 Question Id : 48558433938 Question Type : MCQ Option Shuffling : No Is Question Mandatory : No Calculator : None Response Time : N.A Think Time : N.A Minimum Instruction Time : 0

Correct Marks : 5 Wrong Marks : 1

Question Key Details :

Key	Value
Comprehension	MCQ

निम्नलिखित में से किसे संसार की काजू राजधानी (केशू केपिटल ऑफ द वर्ल्ड) के नाम से जना जाता है।

1. कोजिकोड
2. कुर्नूल
3. कम्बाकोनम
4. कोल्लम

Options :

485584135749. 1
485584135750. 2
485584135751. 3
485584135752. 4

Question Number : 574 Question Id : 48558433939 Question Type : MCQ Option Shuffling : No Is Question Mandatory : No Calculator : None Response Time : N.A Think Time : N.A Minimum Instruction Time : 0

Correct Marks : 5 Wrong Marks : 1

Question Key Details :

Key	Value
Comprehension	MCQ

Laterite soil is formed due to intense leaching. Red laterite soil in Kerala is more suitable for:

1. Wheat
2. Paddy
3. Cashew nut
4. Cotton

Options :

485584135753. 1
485584135754. 2
485584135755. 3
485584135756. 4

Question Number : 574 Question Id : 48558433939 Question Type : MCQ Option Shuffling : No Is Question Mandatory : No Calculator : None Response Time : N.A Think Time : N.A Minimum Instruction Time : 0

Correct Marks : 5 Wrong Marks : 1

Question Key Details :

Key	Value
Comprehension	MCQ

लेटराइट मिट्टी का निर्माण तीव्र नीक्षालन के कारण होता है। केरल में लाल लेटराइट मिट्टी सबसे अधिक किसके लिए उपयुक्त होती है:-

1. गेहूँ
2. धान
3. काजू
4. कपास

Options :

485584135753. 1
485584135754. 2
485584135755. 3
485584135756. 4

Question Number : 575 Question Id : 48558433940 Question Type : MCQ Option Shuffling : No Is Question Mandatory : No Calculator : None Response Time : N.A Think Time : N.A Minimum Instruction Time : 0

Correct Marks : 5 Wrong Marks : 1

Question Key Details :

Key	Value
Comprehension	MCQ

Smallest planet of solar system is?

1. Venus
2. Mercury
3. Uranus
4. Neptune

Options :

485584135757. 1
485584135758. 2
485584135759. 3
485584135760. 4

Question Number : 575 Question Id : 48558433940 Question Type : MCQ Option Shuffling : No Is Question Mandatory : No Calculator : None Response Time : N.A Think Time : N.A Minimum Instruction Time : 0

Correct Marks : 5 Wrong Marks : 1

Question Key Details :

Key	Value
Comprehension	MCQ

सौर मण्डल का सबसे छोटा ग्रह कौन सा है?

1. शुक्र
2. बुध
3. यूरेनस
4. नेपच्यून

Options :

485584135757. 1
485584135758. 2
485584135759. 3
485584135760. 4

Question Number : 576 Question Id : 48558433941 Question Type : MCQ Option Shuffling : No Is Question Mandatory : No Calculator : None Response Time : N.A Think Time : N.A Minimum Instruction Time : 0

Correct Marks : 5 Wrong Marks : 1

Question Key Details :

Key	Value
Comprehension	MCQ

The number of seats for Lok Sabha from Himachal Pradesh is:

1. 4
2. 14
3. 24
4. 5

Options :

485584135761. 1
485584135762. 2
485584135763. 3
485584135764. 4

Question Number : 576 Question Id : 48558433941 Question Type : MCQ Option Shuffling : No Is Question Mandatory : No Calculator : None Response Time : N.A Think Time : N.A Minimum Instruction Time : 0

Correct Marks : 5 Wrong Marks : 1

Question Key Details :

Key	Value
Comprehension	MCQ

हिमाचल प्रदेश से लोक सभा में सदस्यों की संख्या है:-

1. 4
2. 14
3. 24
4. 5

Options :

485584135761. 1
485584135762. 2
485584135763. 3
485584135764. 4

Question Number : 577 Question Id : 48558433942 Question Type : MCQ Option Shuffling : No Is Question Mandatory : No Calculator : None Response Time : N.A Think Time : N.A Minimum Instruction Time : 0

Correct Marks : 5 Wrong Marks : 1

Question Key Details :

Key	Value
Comprehension	MCQ

Which of the following generates maximum employment in India?

1. Secondary section
2. Primary section
3. Railways
4. Tertiary section

Options :

485584135765. 1
485584135766. 2
485584135767. 3
485584135768. 4

Question Number : 577 Question Id : 48558433942 Question Type : MCQ Option Shuffling : No Is Question Mandatory : No Calculator : None Response Time : N.A Think Time : N.A Minimum Instruction Time : 0

Correct Marks : 5 Wrong Marks : 1

Question Key Details :

Key	Value
Comprehension	MCQ

निम्नलिखित में से कौन सा क्षेत्र भारत में सबसे अधिक रोजगार उत्पन्न करता है?

1. सेकेंडरी क्षेत्र
2. प्राथमिक क्षेत्र
3. रेल-विभाग
4. तृतीयक क्षेत्र

Options :

485584135765. 1
485584135766. 2
485584135767. 3
485584135768. 4

Question Number : 578 Question Id : 48558433943 Question Type : MCQ Option Shuffling : No Is Question Mandatory : No Calculator : None Response Time : N.A Think Time : N.A Minimum Instruction Time : 0

Correct Marks : 5 Wrong Marks : 1

Question Key Details :

Key	Value
Comprehension	MCQ

The book "Mind Master: Winning Lessons from a Champion's Life" is about whom amongst the following?

1. Viswanathan Anand
2. M.S. Dhoni
3. Virat Kohli
4. Sachin Tendulkar

Options :

485584135769. 1
485584135770. 2
485584135771. 3
485584135772. 4

Question Number : 578 Question Id : 48558433943 Question Type : MCQ Option Shuffling : No Is Question Mandatory : No Calculator : None Response Time : N.A Think Time : N.A Minimum Instruction Time : 0

Correct Marks : 5 Wrong Marks : 1

Question Key Details :

Key	Value
Comprehension	MCQ

पुस्तक "माइंड मास्टर विनिंग लेसन्स फ्रॉम ए चैंपियंस लाइफ" निम्नलिखित में से किसके बारे में है?

1. विश्वनाथन आदंन
2. एम. एस धोनी
3. विराट कोहली
4. सचिन तेंदुलकर

Options :

485584135769. 1
485584135770. 2
485584135771. 3
485584135772. 4

Question Number : 579 Question Id : 48558433944 Question Type : MCQ Option Shuffling : No Is Question Mandatory : No Calculator : None Response Time : N.A Think Time : N.A Minimum Instruction Time : 0

Correct Marks : 5 Wrong Marks : 1

Question Key Details :

Key	Value
Comprehension	MCQ

The place where ISRO organised 'Human Spaceflight Expo'?

1. Ahmedabad
2. Bengaluru
3. Thiruvananthpuram
4. Mumbai

Options :

485584135773. 1
485584135774. 2
485584135775. 3
485584135776. 4

Question Number : 579 Question Id : 48558433944 Question Type : MCQ Option Shuffling : No Is Question Mandatory : No Calculator : None Response Time : N.A Think Time : N.A Minimum Instruction Time : 0

Correct Marks : 5 Wrong Marks : 1

Question Key Details :

Key	Value
Comprehension	MCQ

वह स्थान जहाँ इसरो ने 'ह्यूमन स्पेसफ्लाइट एक्सपो' आयोजित किया:-

1. अहमदाबाद
2. बैंगलुरु
3. तिरुवेन्तपुरम
4. मुम्बई

Options :

485584135773. 1
485584135774. 2
485584135775. 3
485584135776. 4

Question Number : 580 Question Id : 48558433945 Question Type : MCQ Option Shuffling : No Is Question Mandatory : No Calculator : None Response Time : N.A Think Time : N.A Minimum Instruction Time : 0

Correct Marks : 5 Wrong Marks : 1

Question Key Details :

Key	Value
Comprehension	MCQ

Who among the following used the term 'Green Revolution' for increasing agricultural production in India?

1. Norman Borlaug
2. M.S. Swaminathan
3. Raj Krishna
4. R.K.V. Rao

Options :

485584135777. 1
485584135778. 2
485584135779. 3
485584135780. 4

Question Number : 580 Question Id : 48558433945 Question Type : MCQ Option Shuffling : No Is Question Mandatory : No Calculator : None Response Time : N.A Think Time : N.A Minimum Instruction Time : 0

Correct Marks : 5 Wrong Marks : 1

Question Key Details :

Key	Value
Comprehension	MCQ

भारत में कृषि उत्पाद को बढ़ाने के लिए निम्नलिखित में से किसने 'हरित क्रांति' शब्द का प्रयोग किया?

1. नॉर्मन बॉरलाग
2. एम. एस. स्वामीनाथन
3. राज कृष्णना
4. आर. के. वी. राव

Options :

485584135777. 1
485584135778. 2
485584135779. 3
485584135780. 4

Urdu

Group Number :	14
Group Id :	485584752
Group Maximum Duration :	45
Group Minimum Duration :	45
Show Attended Group? :	No
Edit Attended Group? :	No
Break time :	0
Group Marks :	200
Is this Group for Examiner? :	No
Examiner permission :	Cant View
Show Progress Bar? :	No

Urdu

Section Id :	485584870
Section Number :	1
Section type :	Online
Mandatory or Optional :	Mandatory
Number of Questions :	50
Number of Questions to be attempted :	40
Section Marks :	200
Enable Mark as Answered Mark for Review and Clear Response :	Yes
Maximum Instruction Time :	0
Sub-Section Number :	1
Sub-Section Id :	4855842449
Question Shuffling Allowed :	No
Is Section Default? :	null
Sub-Section Number :	2
Sub-Section Id :	4855842450
Question Shuffling Allowed :	Yes
Is Section Default? :	null
Sub-Section Number :	3
Sub-Section Id :	4855842451
Question Shuffling Allowed :	No
Is Section Default? :	null
Sub-Section Number :	4
Sub-Section Id :	4855842452
Question Shuffling Allowed :	No
Is Section Default? :	null
Sub-Section Number :	5
Sub-Section Id :	4855842453
Question Shuffling Allowed :	Yes
Is Section Default? :	null