

# National Testing Agency

**Question Paper Name :** 18S1  
**Subject Name :** 18Jun2023 Shift1 Subject Combination 1  
**Creation Date :** 2023-06-18 15:55:18  
**Duration :** 645  
**Total Marks :** 2850  
**Display Marks:** Yes

## English

**Group Number :** 1  
**Group Id :** 485584739  
**Group Maximum Duration :** 45  
**Group Minimum Duration :** 45  
**Show Attended Group? :** No  
**Edit Attended Group? :** No  
**Break time :** 0  
**Group Marks :** 200  
**Is this Group for Examiner? :** No  
**Examiner permission :** Cant View  
**Show Progress Bar? :** No

## English

**Section Id :** 485584853  
**Section Number :** 1  
**Section type :** Online  
**Mandatory or Optional :** Mandatory  
**Number of Questions :** 50  
**Number of Questions to be attempted :** 40  
**Section Marks :** 200  
**Enable Mark as Answered Mark for Review and Clear Response :** Yes  
**Maximum Instruction Time :** 0  
**Sub-Section Number :** 1  
**Sub-Section Id :** 4855842402  
**Question Shuffling Allowed :** No  
**Is Section Default? :** null

**Question Number : 1 Question Id : 48558433166 Question Type : MCQ Option Shuffling : No Is Question Mandatory : No  
Calculator : None Response Time : N.A Think Time : N.A Minimum Instruction Time : 0**

**Correct Marks : 5 Wrong Marks : 1**

**Question Key Details :**

Key	Value
Comprehension	Comp1

Unquestionably a literary life is for the most part an unhappy life; because, if you have genius, you must suffer the penalty of genius; and if you have only talent, there are so many cares and worries incidental to the circumstances of men of letters, as to make life exceedingly miserable. Besides the pangs of composition, and the continuous disappointment which a trues artist feels at his inability to reveal himself, there is the ever-recurring difficulty of gaining the public ear. Young writers are buoyed up by the hope and the belief that they have only to print to be acknowledged at once as a new light in literature. You can never convince a young author that the editors of magazines and the publishers of books are a practical body of men, who are by no means frantically anxious about placing the best literature before the public. Nay, that for the most part they are mere brokers, who conduct their business on the hardest lines of a Profit and Loss account. But supposing your book fairly launches, its perils, are only beginning. You have to run the gauntlet of the critics. To a young author, again, this seems to be as terrible on ordeal as passing down the files of Sioux or Comanche Indians, each one of whom is thirsting for your scalp. When you are a little older, you will find that criticism is not much more serious than the bye-play of clowns in a circus, when they beat around the ring the victim with bladders slung at the end of long poles. A time comes in the life of every author when he regards critics as comical rather than formidable, and goes his way unheeding. But there are sensitive souls that yield under the chastisement and, perhaps after suffering much silent torture, abandon the profession of the pen for ever, Keats, perhaps, is the saddest example of a fine spirit hounded to death by savage criticism; because, whatever his biographers may aver, that furious attack of Gifford and Terry undoubtedly expediated his death. But no doubt there are hundreds who suffer keenly hostile and unscrupulous criticism, and who have to bear that suffering in silence, because it is a cardinal principle in literature that the most unwise thing in the world for an author is to take public notice of criticism in the way of defending himself. Silence is the only safeguard, as it is the only dignified protest against insult and offence.

Why is the literary life mostly an unhappy one?

1. Most people don't understand literary people
2. They have to suffer the penalty of genius
3. Literary life is not about richness
4. They do not get the publishers easily

**Options :**

- 485584132661. 1
- 485584132662. 2
- 485584132663. 3
- 485584132664. 4

**Question Number : 2 Question Id : 48558433167 Question Type : MCQ Option Shuffling : No Is Question Mandatory : No Calculator : None Response Time : N.A Think Time : N.A Minimum Instruction Time : 0**

**Correct Marks : 5 Wrong Marks : 1**

**Question Key Details :**

Key	Value
Comprehension	Comp1

Unquestionably a literary life is for the most part an unhappy life; because, if you have genius, you must suffer the penalty of genius; and if you have only talent, there are so many cares and worries incidental to the circumstances of men of letters, as to make life exceedingly miserable. Besides the pangs of composition, and the continuous disappointment which a trues artist feels at his inability to reveal himself, there is the ever-recurring difficulty of gaining the public ear. Young writers are buoyed up by the hope and the belief that they have only to print to be acknowledged at once as a new light in literature. You can never convince a young author that the editors of magazines and the publishers of books are a practical body of men, who are by no means frantically anxious about placing the best literature before the public. Nay, that for the most part they are mere brokers, who conduct their business on the hardest lines of a Profit and Loss account. But supposing your book fairly launches, its perils, are only beginning. You have to run the gauntlet of the critics. To a young author, again, this seems to be as terrible on ordeal as passing down the files of Sioux or Comanche Indians, each one of whom is thirsting for your scalp. When you are a little older, you will find that criticism is not much more serious than the bye-play of clowns in a circus, when they beat around the ring the victim with bladders slung at the end of long poles. A time comes in the life of every author when he regards critics as comical rather than formidable, and goes his way unheeding. But there are sensitive souls that yield under the chastisement and, perhaps after suffering much silent torture, abandon the profession of the pen for ever, Keats, perhaps, is the saddest example of a fine spirit hounded to death by savage criticism; because, whatever his biographers may aver, that furious attack of Gifford and Terry undoubtedly expediated his death. But no doubt there are hundreds who suffer keenly hostile and unscrupulous criticism, and who have to bear that suffering in silence, because it is a cardinal principle in literature that the most unwise thing in the world for an author is to take public notice of criticism in the way of defending himself. Silence is the only safeguard, as it is the only dignified protest against insult and offence.

What is the ambition of a young author?

1. To create big name in the literary world
2. To achieve name and fame instantly
3. To create a big dent in the knowledge world
4. To dislodge other big names in the literary world

**Options :**

- 485584132665. 1
- 485584132666. 2
- 485584132667. 3
- 485584132668. 4

**Question Number : 3 Question Id : 48558433168 Question Type : MCQ Option Shuffling : No Is Question Mandatory : No Calculator : None Response Time : N.A Think Time : N.A Minimum Instruction Time : 0**

**Correct Marks : 5 Wrong Marks : 1**

**Question Key Details :**

Key	Value
Comprehension	Comp1

Unquestionably a literary life is for the most part an unhappy life; because, if you have genius, you must suffer the penalty of genius; and if you have only talent, there are so many cares and worries incidental to the circumstances of men of letters, as to make life exceedingly miserable. Besides the pangs of composition, and the continuous disappointment which a trues artist feels at his inability to reveal himself, there is the ever-recurring difficulty of gaining the public ear. Young writers are buoyed up by the hope and the belief that they have only to print to be acknowledged at once as a new light in literature. You can never convince a young author that the editors of magazines and the publishers of books are a practical body of men, who are by no means frantically anxious about placing the best literature before the public. Nay, that for the most part they are mere brokers, who conduct their business on the hardest lines of a Profit and Loss account. But supposing your book fairly launches, its perils, are only beginning. You have to run the gauntlet of the critics. To a young author, again, this seems to be as terrible on ordeal as passing down the files of Sioux or Comanche Indians, each one of whom is thirsting for your scalp. When you are a little older, you will find that criticism is not much more serious than the bye-play of clowns in a circus, when they beat around the ring the victim with bladders slung at the end of long poles. A time comes in the life of every author when he regards critics as comical rather than formidable, and goes his way unheeding. But there are sensitive souls that yield under the chastisement and, perhaps after suffering much silent torture, abandon the profession of the pen for ever, Keats, perhaps, is the saddest example of a fine spirit hounded to death by savage criticism; because, whatever his biographers may aver, that furious attack of Gifford and Terry undoubtedly expediated his death. But no doubt there are hundreds who suffer keenly hostile and unscrupulous criticism, and who have to bear that suffering in silence, because it is a cardinal principle in literature that the most unwise thing in the world for an author is to take public notice of criticism in the way of defending himself. Silence is the only safeguard, as it is the only dignified protest against insult and offence.

What is the general response of the editors and publishers towards young authors?

1. They are very sympathetic
2. They are very hostile
3. They are very welcoming
4. They are highly indifferent

**Options :**

- 485584132669. 1
- 485584132670. 2
- 485584132671. 3
- 485584132672. 4

**Question Number : 4 Question Id : 48558433169 Question Type : MCQ Option Shuffling : No Is Question Mandatory : No Calculator : None Response Time : N.A Think Time : N.A Minimum Instruction Time : 0**

**Correct Marks : 5 Wrong Marks : 1**

**Question Key Details :**

Key	Value
Comprehension	Comp1

Unquestionably a literary life is for the most part an unhappy life; because, if you have genius, you must suffer the penalty of genius; and if you have only talent, there are so many cares and worries incidental to the circumstances of men of letters, as to make life exceedingly miserable. Besides the pangs of composition, and the continuous disappointment which a trues artist feels at his inability to reveal himself, there is the ever-recurring difficulty of gaining the public ear. Young writers are buoyed up by the hope and the belief that they have only to print to be acknowledged at once as a new light in literature. You can never convince a young author that the editors of magazines and the publishers of books are a practical body of men, who are by no means frantically anxious about placing the best literature before the public. Nay, that for the most part they are mere brokers, who conduct their business on the hardest lines of a Profit and Loss account. But supposing your book fairly launches, its perils, are only beginning. You have to run the gauntlet of the critics. To a young author, again, this seems to be as terrible on ordeal as passing down the files of Sioux or Comanche Indians, each one of whom is thirsting for your scalp. When you are a little older, you will find that criticism is not much more serious than the bye-play of clowns in a circus, when they beat around the ring the victim with bladders slung at the end of long poles. A time comes in the life of every author when he regards critics as comical rather than formidable, and goes his way unheeding. But there are sensitive souls that yield under the chastisement and, perhaps after suffering much silent torture, abandon the profession of the pen for ever, Keats, perhaps, is the saddest example of a fine spirit hounded to death by savage criticism; because, whatever his biographers may aver, that furious attack of Gifford and Terry undoubtedly expediated his death. But no doubt there are hundreds who suffer keenly hostile and unscrupulous criticism, and who have to bear that suffering in silence, because it is a cardinal principle in literature that the most unwise thing in the world for an author is to take public notice of criticism in the way of defending himself. Silence is the only safeguard, as it is the only dignified protest against insult and offence.

What attitude should an author adopt in the face of bitter critics?

1. All criticism should be accepted nicely.
2. All criticism should be rejected.
3. All criticism should be written about.
4. Silence is the best response.

**Options :**

- 485584132673. 1
- 485584132674. 2
- 485584132675. 3
- 485584132676. 4

**Question Number : 5 Question Id : 48558433170 Question Type : MCQ Option Shuffling : No Is Question Mandatory : No Calculator : None Response Time : N.A Think Time : N.A Minimum Instruction Time : 0**

**Correct Marks : 5 Wrong Marks : 1**

**Question Key Details :**

Key	Value
Comprehension	Comp1

Unquestionably a literary life is for the most part an unhappy life; because, if you have genius, you must suffer the penalty of genius; and if you have only talent, there are so many cares and worries incidental to the circumstances of men of letters, as to make life exceedingly miserable. Besides the pangs of composition, and the continuous disappointment which a trues artist feels at his inability to reveal himself, there is the ever-recurring difficulty of gaining the public ear. Young writers are buoyed up by the hope and the belief that they have only to print to be acknowledged at once as a new light in literature. You can never convince a young author that the editors of magazines and the publishers of books are a practical body of men, who are by no means frantically anxious about placing the best literature before the public. Nay, that for the most part they are mere brokers, who conduct their business on the hardest lines of a Profit and Loss account. But supposing your book fairly launches, its perils, are only beginning. You have to run the gauntlet of the critics. To a young author, again, this seems to be as terrible on ordeal as passing down the files of Sioux or Comanche Indians, each one of whom is thirsting for your scalp. When you are a little older, you will find that criticism is not much more serious than the bye-play of clowns in a circus, when they beat around the ring the victim with bladders slung at the end of long poles. A time comes in the life of every author when he regards critics as comical rather than formidable, and goes his way unheeding. But there are sensitive souls that yield under the chastisement and, perhaps after suffering much silent torture, abandon the profession of the pen for ever, Keats, perhaps, is the saddest example of a fine spirit hounded to death by savage criticism; because, whatever his biographers may aver, that furious attack of Gifford and Terry undoubtedly expediated his death. But no doubt there are hundreds who suffer keenly hostile and unscrupulous criticism, and who have to bear that suffering in silence, because it is a cardinal principle in literature that the most unwise thing in the world for an author is to take public notice of criticism in the way of defending himself. Silence is the only safeguard, as it is the only dignified protest against insult and offence.

Explain "Abandon the profession of pen"

1. Publishing sector
2. literary life
3. Pen-making Industry
4. The world of critics

**Options :**

- 485584132677. 1
- 485584132678. 2
- 485584132679. 3
- 485584132680. 4

**Sub-Section Number :** 2  
**Sub-Section Id :** 4855842403  
**Question Shuffling Allowed :** No  
**Is Section Default? :** null

**Question Number : 6 Question Id : 48558433171 Question Type : MCQ Option Shuffling : No Is Question Mandatory : No Calculator : None Response Time : N.A Think Time : N.A Minimum Instruction Time : 0**

**Correct Marks : 5 Wrong Marks : 1**

**Question Key Details :**

Key	Value
Comprehension	Comp2

Organisms change over time. Some of these changes make no difference to the success or failure of the organism that inherit them; other changes do. Take a group of antelopes in which one individual has longer legs than its siblings. Those longer legs make the individual better at escaping from predators, hence giving it an advantage in the survival stakes. Its descendants inherit this feature and are better able to survive as a consequence. Those longer legs have thus become an 'adaptation' Their evolution means that this particular lineage of ante lopes has adapted to its conditions, thanks to its development of this features. Their evolution means that this particular lineage of ante lopes

Over the generations, the individual components of the genetic code within a species change, or mutate. So far as we know, mutations mny provide no evolutionary advantage at all. They may be disadvantageous, in which case they are weeded out via natural selection; or they may be advantageous, in which case they persist through the generations.

Choose the most appropriate meaning of the given word:

### MUTATION

1. undergo a change in the genetic code
2. transform into another organism
3. a rupture in the organism's growth
4. rapid change in the bone structure of the organism

#### Options :

- 485584132681. 1
- 485584132682. 2
- 485584132683. 3
- 485584132684. 4

**Question Number : 7 Question Id : 48558433172 Question Type : MCQ Option Shuffling : No Is Question Mandatory : No Calculator : None Response Time : N.A Think Time : N.A Minimum Instruction Time : 0**

**Correct Marks : 5 Wrong Marks : 1**

#### Question Key Details :

Key	Value
Comprehension	Comp2

Organisms change over time. Some of these changes make no difference to the success or failure of the organism that inherit them; other changes do. Take a group of antelopes in which one individual has longer legs than its siblings. Those longer legs make the individual better at escaping from predators, hence giving it an advantage in the survival stakes. Its descendants inherit this feature and are better able to survive as a consequence. Those longer legs have thus become an 'adaptation' Their evolution means that this particular lineage of ante lopes has adapted to its conditions, thanks to its development of this features. Their evolution means that this particular lineage of ante lopes

Over the generations, the individual components of the genetic code within a species change, or mutate. So far as we know, mutations mny provide no evolutionary advantage at all. They may be disadvantageous, in which case they are weeded out via natural selection; or they may be advantageous, in which case they persist through the generations.

Choose the most appropriate answer to the following question.  
How have antelopes adopted to get better at escaping from predators?

1. The long legs of the antelopes help them run faster and have become an adaptations
2. Their horns help them defeat predators
3. They have no advantageous mutations
4. They have a keen sense of smell

**Options :**

- 485584132685. 1
- 485584132686. 2
- 485584132687. 3
- 485584132688. 4

**Question Number : 8 Question Id : 48558433173 Question Type : MCQ Option Shuffling : No Is Question Mandatory : No Calculator : None Response Time : N.A Think Time : N.A Minimum Instruction Time : 0**

**Correct Marks : 5 Wrong Marks : 1**

**Question Key Details :**

Key	Value
Comprehension	Comp2

Organisms change over time. Some of these changes make no difference to the success or failure of the organism that inherit them; other changes do. Take a group of antelopes in which one individual has longer legs than its siblings. Those longer legs make the individual better at escaping from predators, hence giving it an advantage in the survival stakes. Its descendants inherit this feature and are better able to survive as a consequence. Those longer legs have thus become an 'adaptation' Their evolution means that this particular lineage of ante lopes has adapted to its conditions, thanks to its development of this features. Their evolution means that this particular lineage of ante lopes

Over the generations, the individual components of the genetic code within a species change, or mutate. So far as we know, mutations mny provide no evolutionary advantage at all. They may be disadvantageous, in which case they are weeded out via natural selection; or they may be advantageous, in which case they persist through the generations.

What happens to disadvantages mutations?

1. they are renewed through natural reduction
2. They persist through the generations
3. They remain an additional burden on the species
4. None of the above

**Options :**

- 485584132689. 1
- 485584132690. 2
- 485584132691. 3
- 485584132692. 4



**Question Number : 9 Question Id : 48558433174 Question Type : MCQ Option Shuffling : No Is Question Mandatory : No Calculator : None Response Time : N.A Think Time : N.A Minimum Instruction Time : 0**

**Correct Marks : 5 Wrong Marks : 1**

**Question Key Details :**

Key	Value
Comprehension	Comp2

Organisms change over time. Some of these changes make no difference to the success or failure of the organism that inherit them; other changes do. Take a group of antelopes in which one individual has longer legs than its siblings. Those longer legs make the individual better at escaping from predators, hence giving it an advantage in the survival stakes. Its descendants inherit this feature and are better able to survive as a consequence. Those longer legs have thus become an 'adaptation' Their evolution means that this particular lineage of ante lopes has adapted to its conditions, thanks to its development of this features. Their evolution means that this particular lineage of ante lopes

Over the generations, the individual components of the genetic code within a species change, or mutate. So far as we know, mutations mny provide no evolutionary advantage at all. They may be disadvantageous, in which case they are weeded out via natural selection; or they may be advantageous, in which case they persist through the generations.

Why do some mutations persist through generations?

1. They are harmful to the animal
2. They make no difference to the animal's survival
3. They are ornamental
4. They are advantageous to the animal

**Options :**

485584132693. 1

485584132694. 2

485584132695. 3

485584132696. 4

**Question Number : 10 Question Id : 48558433175 Question Type : MCQ Option Shuffling : No Is Question Mandatory : No Calculator : None Response Time : N.A Think Time : N.A Minimum Instruction Time : 0**

**Correct Marks : 5 Wrong Marks : 1**

**Question Key Details :**

Key	Value
Comprehension	Comp2

Organisms change over time. Some of these changes make no difference to the success or failure of the organism that inherit them; other changes do. Take a group of antelopes in which one individual has longer legs than its siblings. Those longer legs make the individual better at escaping from predators, hence giving it an advantage in the survival stakes. Its descendants inherit this feature and are better able to survive as a consequence. Those longer legs have thus become an 'adaptation' Their evolution means that this particular lineage of ante lopes has adapted to its conditions, thanks to its development of this features. Their evolution means that this particular lineage of ante lopes

Over the generations, the individual components of the genetic code within a species change, or mutate. So far as we know, mutations mny provide no evolutionary advantage at all. They may be disadvantageous, in which case they are weeded out via natural selection; or they may be advantageous, in which case they persist through the generations.

Choose an appropriate title for the passage from the following options:-

1. Adaptation and Mutation
2. Mutation: A Necessity
3. Genetic Code
4. Survival of the Antelope

**Options :**

- 485584132697. 1
- 485584132698. 2
- 485584132699. 3
- 485584132700. 4

**Sub-Section Number :** 3  
**Sub-Section Id :** 4855842404  
**Question Shuffling Allowed :** No  
**Is Section Default? :** null

**Question Number : 11 Question Id : 48558433176 Question Type : MCQ Option Shuffling : No Is Question Mandatory : No Calculator : None Response Time : N.A Think Time : N.A Minimum Instruction Time : 0**

**Correct Marks : 5 Wrong Marks : 1**

**Question Key Details :**

Key	Value
Comprehension	Comp3

Supposing you have to make a payment of Rs.100, you can do so in rupees-coins; but it would be cumbersome to pay in nickel or copper coins, because they are heavy to carry and also because it takes much time to count them. The government therefore permits you to make the payment in rupee-notes. What are these rupee notes really? They are kind of money, right enough, although they are made of paper instead of metal. You can use them in just the same way that you use ordinary money. The reason why they are made of paper and used is that they save the trouble of carrying metal coins about-of course, paper is lighter than metal-and they also save using silver and other metals when they are scarce.

What makes these mere pieces of of paper bear the value of the number of rupees that is printed upon them? Why should a piece of paper, with "100" printed on it be worth twenty times as much as a piece of paper with "five" printed on it-and also worth a hundred times as much as a silver rupee-coin? The reason is that Government guarantees that the piece of paper is worth the amount printed an it and promised to pay that amount to any body who wishes to exchange this paper for the rupee-coins. Also, if you think about it you can easily realize that crores and crores more of rupee-coins would have to be minted, if all paper-money were abolished.

Perhaps you may ask, "Then why not have paper money only?" Why use silver and Nickle and copper at all? The answer is-because money must, as we have already said, be something so useful that everyone wants. Also because the metals are the best form of money; and thirdly because it would be impossible to print just the right amount of paper money that would keep prices at their proper natural level. If any Government prints too much paper money, then prices go up at once. The supply of money is increased and therefore its value (in food, clothes, books, houses, land, tools and everything else) goes down.

You may think at first that it is queer to talk of having too much paper money and the money is so nice and useful that you cannot have too much of it. But if you think that, I an afraid you are forgetting that money is only useful for what it will buy; so it is no good at all having more money if there are no more things to buy with it. The more money there is , the higher will be the prices of everything. The same thing happens with rupee-coins as with paper money. But it is not likely to happen, for this reason: it is very easy to print a great deal of paper money, but not at all easy to increase the amount there is if it keeps very steady and changes very little. In fact that is one of the chief reasons why it was chosen to make coins of.

The Government allows payment to be made in \_\_\_\_\_

1. nickel
2. rupee coins
3. copper coins
4. rupee notes

**Options :**

- 485584132701. 1
- 485584132702. 2
- 485584132703. 3
- 485584132704. 4

**Question Number : 12 Question Id : 48558433177 Question Type : MCQ Option Shuffling : No Is Question Mandatory : No Calculator : None Response Time : N.A Think Time : N.A Minimum Instruction Time : 0**

**Correct Marks : 5 Wrong Marks : 1**

**Question Key Details :**

Key	Value
Comprehension	Comp3

Supposing you have to make a payment of Rs.100, you can do so in rupees-coins; but it would be cumbersome to pay in nickel or copper coins, because they are heavy to carry and also because it takes much time to count them. The government therefore permits you to make the payment in rupee-notes. What are these rupee notes really? They are kind of money, right enough, although they are made of paper instead of metal. You can use them in just the same way that you use ordinary money. The reason why they are made of paper and used is that they save the trouble of carrying metal coins about-of course, paper is lighter than metal-and they also save using silver and other metals when they are scarce.

What makes these mere pieces of of paper bear the value of the number of rupees that is printed upon them? Why should a piece of paper, with "100" printed on it be worth twenty times as much as a piece of paper with "five" printed on it-and also worth a hundred times as much as a silver rupee-coin? The reason is that Government guarantees that the piece of paper is worth the amount printed an it and promised to pay that amount to any body who wishes to exchange this paper for the rupee-coins. Also, if you think about it you can easily realize that crores and crores more of rupee-coins would have to be minted, if all paper-money were abolished.

Perhaps you may ask, "Then why not have paper money only?" Why use silver and Nickle and copper at all? The answer is-because money must, as we have already said, be something so useful that everyone wants. Also because the metals are the best form of money; and thirdly because it would be impossible to print just the right amount of paper money that would keep prices at their proper natural level. If any Government prints too much paper money, then prices go up at once. The supply of money is increased and therefore its value (in food, clothes, books, houses, land, tools and everything else) goes down.

You may think at first that it is queer to talk of having too much paper money and the money is so nice and useful that you cannot have too much of it. But if you think that, I an afraid you are forgetting that money is only useful for what it will buy; so it is no good at all having more money if there are no more things to buy with it. The more money there is , the higher will be the prices of everything. The same thing happens with rupee-coins as with paper money. But it is not likely to happen, for this reason: it is very easy to print a great deal of paper money, but not at all easy to increase the amount there is if it keeps very steady and changes very little. In fact that is one of the chief reasons why it was chosen to make coins of.

What are these rupee notes made of?

1. coins
2. nickel
3. paper
4. copper coins

**Options :**

- 485584132705. 1
- 485584132706. 2
- 485584132707. 3
- 485584132708. 4

**Question Number : 13 Question Id : 48558433178 Question Type : MCQ Option Shuffling : No Is Question Mandatory : No Calculator : None Response Time : N.A Think Time : N.A Minimum Instruction Time : 0**

**Correct Marks : 5 Wrong Marks : 1**

**Question Key Details :**

Key	Value
Comprehension	Comp3

Supposing you have to make a payment of Rs.100, you can do so in rupees-coins; but it would be cumbersome to pay in nickel or copper coins, because they are heavy to carry and also because it takes much time to count them. The government therefore permits you to make the payment in rupee-notes. What are these rupee notes really? They are kind of money, right enough, although they are made of paper instead of metal. You can use them in just the same way that you use ordinary money. The reason why they are made of paper and used is that they save the trouble of carrying metal coins about-of course, paper is lighter than metal-and they also save using silver and other metals when they are scarce.

What makes these mere pieces of of paper bear the value of the number of rupees that is printed upon them? Why should a piece of paper, with "100" printed on it be worth twenty times as much as a piece of paper with "five" printed on it-and also worth a hundred times as much as a silver rupee-coin? The reason is that Government guarantees that the piece of paper is worth the amount printed an it and promised to pay that amount to any body who wishes to exchange this paper for the rupee-coins. Also, if you think about it you can easily realize that crores and crores more of rupee-coins would have to be minted, if all paper-money were abolished.

Perhaps you may ask, "Then why not have paper money only?" Why use silver and Nickle and copper at all? The answer is-because money must, as we have already said, be something so useful that everyone wants. Also because the metals are the best form of money; and thirdly because it would be impossible to print just the right amount of paper money that would keep prices at their proper natural level. If any Government prints too much paper money, then prices go up at once. The supply of money is increased and therefore its value (in food, clothes, books, houses, land, tools and everything else) goes down.

You may think at first that it is queer to talk of having too much paper money and the money is so nice and useful that you cannot have too much of it. But if you think that, I an afraid you are forgetting that money is only useful for what it will buy; so it is no good at all having more money if there are no more things to buy with it. The more money there is , the higher will be the prices of everything. The same thing happens with rupee-coins as with paper money. But it is not likely to happen, for this reason: it is very easy to print a great deal of paper money, but not at all easy to increase the amount there is if it keeps very steady and changes very little. In fact that is one of the chief reasons why it was chosen to make coins of.

\_\_\_\_\_ are the best form of money

1. paper-notes
2. metals
3. nickel coins
4. copper coins

**Options :**

- 485584132709. 1
- 485584132710. 2
- 485584132711. 3
- 485584132712. 4

**Question Number : 14 Question Id : 48558433179 Question Type : MCQ Option Shuffling : No Is Question Mandatory : No Calculator : None Response Time : N.A Think Time : N.A Minimum Instruction Time : 0**

**Correct Marks : 5 Wrong Marks : 1**

**Question Key Details :**

Key	Value
Comprehension	Comp3

Supposing you have to make a payment of Rs.100, you can do so in rupees-coins; but it would be cumbersome to pay in nickel or copper coins, because they are heavy to carry and also because it takes much time to count them. The government therefore permits you to make the payment in rupee-notes. What are these rupee notes really? They are kind of money, right enough, although they are made of paper instead of metal. You can use them in just the same way that you use ordinary money. The reason why they are made of paper and used is that they save the trouble of carrying metal coins about-of course, paper is lighter than metal-and they also save using silver and other metals when they are scarce.

What makes these mere pieces of of paper bear the value of the number of rupees that is printed upon them? Why should a piece of paper, with "100" printed on it be worth twenty times as much as a piece of paper with "five" printed on it-and also worth a hundred times as much as a silver rupee-coin? The reason is that Government guarantees that the piece of paper is worth the amount printed an it and promised to pay that amount to any body who wishes to exchange this paper for the rupee-coins. Also, if you think about it you can easily realize that crores and crores more of rupee-coins would have to be minted, if all paper-money were abolished.

Perhaps you may ask, "Then why not have paper money only?" Why use silver and Nickle and copper at all? The answer is-because money must, as we have already said, be something so useful that everyone wants. Also because the metals are the best form of money; and thirdly because it would be impossible to print just the right amount of paper money that would keep prices at their proper natural level. It any Government prints too much paper money, then prices go up at once. The supply of money is increased and therefore its value (in food, clothes, books, houses, land, tools and everything else) goes down.

You may think at first that it is queer to talk of having too much paper money and the money is so nice and useful that you cannot have too much of it. But if you think that, I an afraid you are forgetting that money is only useful for what it will buy; so it is no good at all having more money if there are no more things to buy with it. The more money there is , the higher will be the prices of everything. The same thing happens with rupee-coins as with paper money. But it is not likely to happen, for this reason: it is very easy to print a great deal of paper money, but not at all easy to increase the amount there is if it keeps very steady and changes very little. In fact that is one of the chief reasons why it was chosen to make coins of.

If the government prints too much paper money, then prices \_\_\_\_\_ at once

1. go up
2. go down
3. remain stable
4. don't change

**Options :**

- 485584132713. 1
- 485584132714. 2
- 485584132715. 3
- 485584132716. 4

**Question Number : 15 Question Id : 48558433180 Question Type : MCQ Option Shuffling : No Is Question Mandatory : No Calculator : None Response Time : N.A Think Time : N.A Minimum Instruction Time : 0**

**Correct Marks : 5 Wrong Marks : 1**

**Question Key Details :**

Key	Value
Comprehension	Comp3

Supposing you have to make a payment of Rs.100, you can do so in rupees-coins; but it would be cumbersome to pay in nickel or copper coins, because they are heavy to carry and also because it takes much time to count them. The government therefore permits you to make the payment in rupee-notes. What are these rupee notes really? They are kind of money, right enough, although they are made of paper instead of metal. You can use them in just the same way that you use ordinary money. The reason why they are made of paper and used is that they save the trouble of carrying metal coins about-of course, paper is lighter than metal-and they also save using silver and other metals when they are scarce.

What makes these mere pieces of of paper bear the value of the number of rupees that is printed upon them? Why should a piece of paper, with "100" printed on it be worth twenty times as much as a piece of paper with "five" printed on it-and also worth a hundred times as much as a silver rupee-coin? The reason is that Government guarantees that the piece of paper is worth the amount printed an it and promised to pay that amount to any body who wishes to exchange this paper for the rupee-coins. Also, if you think about it you can easily realize that crores and crores more of rupee-coins would have to be minted, if all paper-money were abolished.

Perhaps you may ask, "Then why not have paper money only?" Why use silver and Nickle and copper at all? The answer is-because money must, as we have already said, be something so useful that everyone wants. Also because the metals are the best form of money; and thirdly because it would be impossible to print just the right amount of paper money that would keep prices at their proper natural level. If any Government prints too much paper money, then prices go up at once. The supply of money is increased and therefore its value (in food, clothes, books, houses, land, tools and everything else) goes down.

You may think at first that it is queer to talk of having too much paper money and the money is so nice and useful that you cannot have too much of it. But if you think that, I an afraid you are forgetting that money is only useful for what it will buy; so it is no good at all having more money if there are no more things to buy with it. The more money there is , the higher will be the prices of everything. The same thing happens with rupee-coins as with paper money. But it is not likely to happen, for this reason: it is very easy to print a great deal of paper money, but not at all easy to increase the amount there is if it keeps very steady and changes very little. In fact that is one of the chief reasons why it was chosen to make coins of.

The more money there is \_\_\_\_\_ will be the prices of everything.

1. the lesser
2. the higher
3. the better
4. the worse

**Options :**

- 485584132717. 1
- 485584132718. 2
- 485584132719. 3
- 485584132720. 4

<b>Sub-Section Number :</b>	4
<b>Sub-Section Id :</b>	4855842405
<b>Question Shuffling Allowed :</b>	Yes
<b>Is Section Default? :</b>	null

**Question Number : 16 Question Id : 48558433181 Question Type : MCQ Option Shuffling : No Is Question Mandatory : No Calculator : None Response Time : N.A Think Time : N.A Minimum Instruction Time : 0 Correct Marks : 5 Wrong Marks : 1**

**Question Key Details :**

<b>Key</b>	<b>Value</b>
Comprehension	MCQ

Match List I with List II

Fill in the blanks with appropriate modals from in the sentences given in the list

LIST I		LIST II	
A.	_____ I go now?	I.	shall
B.	We _____ learn swimming	II.	can
C.	You _____ reach home before dark	III.	should
D.	We _____ discuss this matter tomorrow	IV.	ought to

Choose the correct answer from the options given below:

1. A-II, B-III, C-IV, D-I
2. A-I, B-II, C-III, D-IV
3. A-I, B-III, C-IV, D-I
4. A-III, B-IV, C-II, D-I

**Options :**

485584132721. 1  
 485584132722. 2  
 485584132723. 3  
 485584132724. 4

**Question Number : 17 Question Id : 48558433182 Question Type : MCQ Option Shuffling : No Is Question Mandatory : No Calculator : None Response Time : N.A Think Time : N.A Minimum Instruction Time : 0**

**Correct Marks : 5 Wrong Marks : 1**

**Question Key Details :**

<b>Key</b>	<b>Value</b>
Comprehension	MCQ

Fill in the most appropriate modal from the given options

Measles \_\_\_\_\_ be quite dangerous

1. could
2. can
3. should
4. would

**Options :**

485584132725. 1  
 485584132726. 2  
 485584132727. 3  
 485584132728. 4



**Question Number : 18 Question Id : 48558433183 Question Type : MCQ Option Shuffling : No Is Question Mandatory : No Calculator : None Response Time : N.A Think Time : N.A Minimum Instruction Time : 0**

**Correct Marks : 5 Wrong Marks : 1**

**Question Key Details :**

Key	Value
Comprehension	MCQ

Spot the error in the following sentence

1. It is often said that
2. some men are born great
3. some achieve greatness and
4. some had greatness threst on them

**Options :**

- 485584132729. 1
- 485584132730. 2
- 485584132731. 3
- 485584132732. 4

**Question Number : 19 Question Id : 48558433184 Question Type : MCQ Option Shuffling : No Is Question Mandatory : No Calculator : None Response Time : N.A Think Time : N.A Minimum Instruction Time : 0**

**Correct Marks : 5 Wrong Marks : 1**

**Question Key Details :**

Key	Value
Comprehension	MCQ

Change the voice of the following sentence from active to passive:

"I opened the window"

Choose the most appropriate option:

1. I was the one who opened option the window
2. The window was opened and I did it.
3. The window was by I.
4. The window was opened by me.

**Options :**

- 485584132733. 1
- 485584132734. 2
- 485584132735. 3
- 485584132736. 4

**Question Number : 20 Question Id : 48558433185 Question Type : MCQ Option Shuffling : No Is Question Mandatory : No Calculator : None Response Time : N.A Think Time : N.A Minimum Instruction Time : 0**

**Correct Marks : 5 Wrong Marks : 1**

**Question Key Details :**

Key	Value
Comprehension	MCQ

Change the voice of the following sentence from the passive to Active

"The essay was edited by the professor."

1. The professor found the essay and edited it.
2. The professor edited the essay.
3. The professor edited something which was the essay.
4. The professor was edited by the essay.

**Options :**

- 485584132737. 1
- 485584132738. 2
- 485584132739. 3
- 485584132740. 4

**Question Number : 21 Question Id : 48558433186 Question Type : MCQ Option Shuffling : No Is Question Mandatory : No Calculator : None Response Time : N.A Think Time : N.A Minimum Instruction Time : 0**

**Correct Marks : 5 Wrong Marks : 1**

**Question Key Details :**

Key	Value
Comprehension	MCQ

Choose the most appropriate meaning of the following foreign word: "nom de plume"

1. Plumage of a bird
2. Last resort
3. Pen-name
4. Method of operating

**Options :**

- 485584132741. 1
- 485584132742. 2
- 485584132743. 3
- 485584132744. 4

**Question Number : 22 Question Id : 48558433187 Question Type : MCQ Option Shuffling : No Is Question Mandatory : No Calculator : None Response Time : N.A Think Time : N.A Minimum Instruction Time : 0**

**Correct Marks : 5 Wrong Marks : 1**

**Question Key Details :**

Key	Value
Comprehension	MCQ

Match the words in List I with their meanings in List II

LIST I		LIST II	
A.	Mandate	I.	reward
B.	recompense	II.	comfort in time of distress
C.	Solace	III.	an official order to do something
D.	Tatters	IV.	torn pieces of cloth or paper

Choose the correct answer from the options given below:

1. A-I, B-II, C-IV, D-III
2. A-II, B-III, C-I, D-IV
3. A-III, B-I, C-II, D-IV
4. A-IV, B-III, C-II, D-I

**Options :**

485584132745. 1  
485584132746. 2  
485584132747. 3  
485584132748. 4

**Question Number : 23 Question Id : 48558433188 Question Type : MCQ Option Shuffling : No Is Question Mandatory : No Calculator : None Response Time : N.A Think Time : N.A Minimum Instruction Time : 0**

**Correct Marks : 5 Wrong Marks : 1**

**Question Key Details :**

Key	Value
Comprehension	MCQ

Choose the most appropriate meaning of the following foreign word: "Papier mache"

1. Paper mixed with glue
2. Paper mixed with metal
3. Paper mixed with soil
4. Paper mixed with charcoal

**Options :**

485584132749. 1  
485584132750. 2  
485584132751. 3  
485584132752. 4

**Question Number : 24 Question Id : 48558433189 Question Type : MCQ Option Shuffling : No Is Question Mandatory : No Calculator : None Response Time : N.A Think Time : N.A Minimum Instruction Time : 0**

**Correct Marks : 5 Wrong Marks : 1**

**Question Key Details :**

Key	Value
Comprehension	MCQ

Change the following sentence from Direct speech to Indirect Speech:  
The coach promised, "If you will come before school tomorrow, I will teach it,"

Choose appropriate option.

1. The coach promised to meet me after school and teach it.
2. The coach promised that if I came before school the next day, he would teach it to me.
3. The coach promised to come before school and teach it to me.
4. The coach promised that I will be taught before school if I came

**Options :**

- 485584132753. 1
- 485584132754. 2
- 485584132755. 3
- 485584132756. 4

**Question Number : 25 Question Id : 48558433190 Question Type : MCQ Option Shuffling : No Is Question Mandatory : No Calculator : None Response Time : N.A Think Time : N.A Minimum Instruction Time : 0**

**Correct Marks : 5 Wrong Marks : 1**

**Question Key Details :**

Key	Value
Comprehension	MCQ

Change the following sentence from Indirect speech to Direct Speech.

She said, "Bravo! You did better than last time"

Choose the most appropriate option:

1. She applauded him, saying that he had done better than last time.
2. She said bravo to him and pointed out that he had done better than last time.
3. She was happy that he had done better than last time.
4. She could not believe that he had done better than last time and said bravo to him.

**Options :**

- 485584132757. 1
- 485584132758. 2
- 485584132759. 3
- 485584132760. 4

**Question Number : 26 Question Id : 48558433191 Question Type : MCQ Option Shuffling : No Is Question Mandatory : No Calculator : None Response Time : N.A Think Time : N.A Minimum Instruction Time : 0**

**Correct Marks : 5 Wrong Marks : 1**

**Question Key Details :**

Key	Value
Comprehension	MCQ

Choose the most appropriate synonym for the following word: "Alarm"

1. Foresee
2. Sleep
3. Awake
4. Shock

**Options :**

485584132761. 1  
485584132762. 2  
485584132763. 3  
485584132764. 4

**Question Number : 27 Question Id : 48558433192 Question Type : MCQ Option Shuffling : No Is Question Mandatory : No Calculator : None Response Time : N.A Think Time : N.A Minimum Instruction Time : 0**

**Correct Marks : 5 Wrong Marks : 1**

**Question Key Details :**

Key	Value
Comprehension	MCQ

Choose the best option to convert the given exclamatory sentence is to Assertive sentence:-

How stupid of me to forget your name!

1. It is stupid of me to forget your name
2. I wonder how can I be stupid to forget your name
3. I can never be stupid to forget your name
4. Forgetting your name is my stupid behaviour

**Options :**

485584132765. 1  
485584132766. 2  
485584132767. 3  
485584132768. 4

**Question Number : 28 Question Id : 48558433193 Question Type : MCQ Option Shuffling : No Is Question Mandatory : No Calculator : None Response Time : N.A Think Time : N.A Minimum Instruction Time : 0**

**Correct Marks : 5 Wrong Marks : 1**

**Question Key Details :**

Key	Value
Comprehension	MCQ

Choose the best option to convert the given assertive sentence in to exclamatory sentence:-

I wish I knew more people here

1. If only I knew more people here!
2. Oh! I knew more people here.
3. What a pity to have known more people here!
4. Alas! I could have known more people here.

**Options :**

- 485584132769. 1
- 485584132770. 2
- 485584132771. 3
- 485584132772. 4

**Question Number : 29 Question Id : 48558433194 Question Type : MCQ Option Shuffling : No Is Question Mandatory : No Calculator : None Response Time : N.A Think Time : N.A Minimum Instruction Time : 0**

**Correct Marks : 5 Wrong Marks : 1**

**Question Key Details :**

Key	Value
Comprehension	MCQ

Match List I with List II

Fill in appropriate modals from list II in The sentences in List I.

LIST I		LIST II	
A.	No one _____ question the ways of God.	I.	Could
B.	How _____ you should at your parents?	II.	Would
C.	_____ you like to have breakfast with me?	III.	can
D.	We ____ respect our elders	IV.	ought to

Choose the correct answer from the options given below:

1. A-I, B-II, C-III, D-IV
2. A-II, B-III, C-I, D-IV
3. A-III, B-I, C-II, D-IV
4. A-IV, B-III, C-I, D-II

**Options :**

- 485584132773. 1
- 485584132774. 2
- 485584132775. 3
- 485584132776. 4

**Question Number : 30 Question Id : 48558433195 Question Type : MCQ Option Shuffling : No Is Question Mandatory : No Calculator : None Response Time : N.A Think Time : N.A Minimum Instruction Time : 0**

**Correct Marks : 5 Wrong Marks : 1**

**Question Key Details :**

Key	Value
Comprehension	MCQ

Fill in correct modals in the given sentence from the given options:-

I wish I \_\_\_\_\_ help you, but I have no money.

1. may
2. could
3. might
4. can

**Options :**

- 485584132777. 1
- 485584132778. 2
- 485584132779. 3
- 485584132780. 4

**Question Number : 31 Question Id : 48558433196 Question Type : MCQ Option Shuffling : No Is Question Mandatory : No Calculator : None Response Time : N.A Think Time : N.A Minimum Instruction Time : 0**

**Correct Marks : 5 Wrong Marks : 1**

**Question Key Details :**

Key	Value
Comprehension	MCQ

Which of the following is an appropriate subscription for a formal letter?

Choose from the options given below:

1. Yours sincerely
2. Yours lovingly
3. Yours forever
4. Your dear friend

**Options :**

- 485584132781. 1
- 485584132782. 2
- 485584132783. 3
- 485584132784. 4

**Question Number : 32 Question Id : 48558433197 Question Type : MCQ Option Shuffling : No Is Question Mandatory : No Calculator : None Response Time : N.A Think Time : N.A Minimum Instruction Time : 0**

**Correct Marks : 5 Wrong Marks : 1**

**Question Key Details :**

Key	Value
Comprehension	MCQ

Which of the following elements are Not found in informal letters?

Choose from the options given below:

1. Signature
2. Date
3. Salutation or Courteous greeting
4. Subject

**Options :**

- 485584132785. 1
- 485584132786. 2
- 485584132787. 3
- 485584132788. 4

**Question Number : 33 Question Id : 48558433198 Question Type : MCQ Option Shuffling : No Is Question Mandatory : No Calculator : None Response Time : N.A Think Time : N.A Minimum Instruction Time : 0**

**Correct Marks : 5 Wrong Marks : 1**

**Question Key Details :**

Key	Value
Comprehension	MCQ

Which of the following pair of words are not homonyms:

1. cite, site
2. pallet, palate
3. burn, burden
4. hear, here

**Options :**

- 485584132789. 1
- 485584132790. 2
- 485584132791. 3
- 485584132792. 4

**Question Number : 34 Question Id : 48558433199 Question Type : MCQ Option Shuffling : No Is Question Mandatory : No Calculator : None Response Time : N.A Think Time : N.A Minimum Instruction Time : 0**

**Correct Marks : 5 Wrong Marks : 1**

**Question Key Details :**

Key	Value
Comprehension	MCQ



Rearrange the following jumbled phrases into a coherent sentence

- A. A given trait whenever they are present
- B. Among heterogenous organisms,
- C. Meaning that they result in the expression of
- D. Some adults are dominant

- 1. ACDB
- 2. BDCA
- 3. DACB
- 4. CDAB

**Options :**

- 485584132793. 1
- 485584132794. 2
- 485584132795. 3
- 485584132796. 4

**Question Number : 35 Question Id : 48558433200 Question Type : MCQ Option Shuffling : No Is Question Mandatory : No Calculator : None Response Time : N.A Think Time : N.A Minimum Instruction Time : 0**

**Correct Marks : 5 Wrong Marks : 1**

**Question Key Details :**

Key	Value
Comprehension	MCQ

Rearrange the following jumbled phrases into a coherent sentence

- A. as Annu is senior than Susan
- B. though Susan had worked there before Annu
- C. Annu received the promotion instead of Susan
- D. in age

- 1. ABCD
- 2. DBAC
- 3. CADB
- 4. BACD

**Options :**

- 485584132797. 1
- 485584132798. 2
- 485584132799. 3
- 485584132800. 4

**Question Number : 36 Question Id : 48558433201 Question Type : MCQ Option Shuffling : No Is Question Mandatory : No Calculator : None Response Time : N.A Think Time : N.A Minimum Instruction Time : 0**

**Correct Marks : 5 Wrong Marks : 1**

**Question Key Details :**

Key	Value
Comprehension	MCQ

The given sentence is divided into three parts. Scan it carefully for errors and choose the most appropriate options

A) I found less | B) books in the| C) library than that

1. A only
2. B and C
3. C only
4. No error

**Options :**

- 485584132801. 1
- 485584132802. 2
- 485584132803. 3
- 485584132804. 4

**Question Number : 37 Question Id : 48558433202 Question Type : MCQ Option Shuffling : No Is Question Mandatory : No Calculator : None Response Time : N.A Think Time : N.A Minimum Instruction Time : 0**

**Correct Marks : 5 Wrong Marks : 1**

**Question Key Details :**

Key	Value
Comprehension	MCQ

The given sentence is divided into tissue parts. scan it carefully for errors and choose the most appropriate options

- A) Few persons  
B) are free  
C) from worries

1. A only
2. A and C
3. C only
4. No errors

**Options :**

- 485584132805. 1
- 485584132806. 2
- 485584132807. 3
- 485584132808. 4

**Question Number : 38 Question Id : 48558433203 Question Type : MCQ Option Shuffling : No Is Question Mandatory : No Calculator : None Response Time : N.A Think Time : N.A Minimum Instruction Time : 0**

**Correct Marks : 5 Wrong Marks : 1**

**Question Key Details :**

Key	Value
Comprehension	MCQ

Identify the option that demonstrates the most appropriate usage of an adjective clause.

1. She is senior and most intelligent than her friend.
2. Meera adopted a Two-years- old girl.
3. This tree is to big as the other tree.
4. She took a six-week course.

**Options :**

- 485584132809. 1
- 485584132810. 2
- 485584132811. 3
- 485584132812. 4

**Question Number : 39 Question Id : 48558433204 Question Type : MCQ Option Shuffling : No Is Question Mandatory : No Calculator : None Response Time : N.A Think Time : N.A Minimum Instruction Time : 0**

**Correct Marks : 5 Wrong Marks : 1**

**Question Key Details :**

Key	Value
Comprehension	MCQ

Choose the options which demonstrates an appropriate usage of articles.

1. She would make a better statesman than philosopher
2. She would make better statesman than philosopher
3. She would make a better statesman than a philosopher
4. She would makes better statesman than a philosopher

**Options :**

- 485584132813. 1
- 485584132814. 2
- 485584132815. 3
- 485584132816. 4

**Question Number : 40 Question Id : 48558433205 Question Type : MCQ Option Shuffling : No Is Question Mandatory : No Calculator : None Response Time : N.A Think Time : N.A Minimum Instruction Time : 0**

**Correct Marks : 5 Wrong Marks : 1**

**Question Key Details :**

Key	Value
Comprehension	MCQ

Which of the following sentences demonstrate appropriate use(s) of asterisks

1. The third and fourth chapter will be tested in exam
2. The third and fourth chapters will be tested in the exam
3. Third and fourth chapter will be tested in the exam
4. The third and fourth chapters will be tested in the exam

**Options :**

- 485584132817. 1
- 485584132818. 2
- 485584132819. 3
- 485584132820. 4

**Question Number : 41 Question Id : 48558433206 Question Type : MCQ Option Shuffling : No Is Question Mandatory : No Calculator : None Response Time : N.A Think Time : N.A Minimum Instruction Time : 0**

**Correct Marks : 5 Wrong Marks : 1**

**Question Key Details :**

Key	Value
Comprehension	MCQ

Fill in the blanks with the most appropriate adverbs.

Does she sing well? \_\_\_\_\_ she does

1. Yes
2. of course
3. I think
4. Certainly

**Options :**

- 485584132821. 1
- 485584132822. 2
- 485584132823. 3
- 485584132824. 4

**Question Number : 42 Question Id : 48558433207 Question Type : MCQ Option Shuffling : No Is Question Mandatory : No Calculator : None Response Time : N.A Think Time : N.A Minimum Instruction Time : 0**

**Correct Marks : 5 Wrong Marks : 1**

**Question Key Details :**

Key	Value
Comprehension	MCQ

Read the following sentence care. Some part of the sentence may have an error. Choose the most appropriate options.

Mumbai (A) | is New York (B) | of India (c)

1. A
2. B
3. C
4. No error

**Options :**

485584132825. 1  
485584132826. 2  
485584132827. 3  
485584132828. 4

**Question Number : 43 Question Id : 48558433208 Question Type : MCQ Option Shuffling : No Is Question Mandatory : No Calculator : None Response Time : N.A Think Time : N.A Minimum Instruction Time : 0**

**Correct Marks : 5 Wrong Marks : 1**

**Question Key Details :**

Key	Value
Comprehension	MCQ

Match List I with List II

LIST I		LIST II	
A.	Wherefore	I.	adverb of reason
B.	seriously	II.	adverb of degree
C.	probably	III.	interrogative adverb
D.	consequently	IV.	adverb of affirmation

Choose the correct answer from the options given below:

1. A-IV, B-III, C-II, D-I
2. A-III, B-I, C-IV, D-II
3. A-III, B-II, C-IV, D-I
4. A-I, B-II, C-IV, D-IV

**Options :**

485584132829. 1  
485584132830. 2  
485584132831. 3  
485584132832. 4

**Question Number : 44 Question Id : 48558433209 Question Type : MCQ Option Shuffling : No Is Question Mandatory : No Calculator : None Response Time : N.A Think Time : N.A Minimum Instruction Time : 0**

**Correct Marks : 5 Wrong Marks : 1**

**Question Key Details :**

Key	Value
Comprehension	MCQ

Rearrange the following sentences to form a coherent paragraph

- A. Because, if the manager's subordinates are inefficient and ineffective and are not helped to increase their efficiency and effectiveness, the task may not be achieved.
- B. This may be just as true as the responsibility for achieving prescribed tasks.
- C. If it is achieved at too great a cost, or at the risk of other effects many of which are less obvious.
- D. It is often said that one of the prime responsibilities of a manager is the training and development of staff

- 1. CBAD
- 2. DBAC
- 3. DCAB
- 4. CDAB

**Options :**

- 485584132833. 1
- 485584132834. 2
- 485584132835. 3
- 485584132836. 4

**Question Number : 45 Question Id : 48558433210 Question Type : MCQ Option Shuffling : No Is Question Mandatory : No Calculator : None Response Time : N.A Think Time : N.A Minimum Instruction Time : 0**

**Correct Marks : 5 Wrong Marks : 1**

**Question Key Details :**

Key	Value
Comprehension	MCQ

Choose the most appropriate antonym of the given word: UPROARIOUS

- 1. calm
- 2. Tumultuous
- 3. bleating
- 4. upright

**Options :**

- 485584132837. 1
- 485584132838. 2
- 485584132839. 3
- 485584132840. 4

**Question Number : 46 Question Id : 48558433211 Question Type : MCQ Option Shuffling : No Is Question Mandatory : No Calculator : None Response Time : N.A Think Time : N.A Minimum Instruction Time : 0**

**Correct Marks : 5 Wrong Marks : 1**

**Question Key Details :**

Key	Value
-----	-------

Match List I with List II Antonyms

LIST I		LIST II	
A.	luminous	I.	initially
B.	eventually	II.	supercilious
C.	subservient	III.	unholy
D.	sacrosant	IV.	dark

Choose the correct answer from the options given below:

1. A-IV, B-III, C-II, D-I
2. A-III, B-II, C-I, D-IV
3. A-IV, B-I, C-II, D-III
4. A-I, B-III, C-II, D-IV

**Options :**

485584132841. 1  
 485584132842. 2  
 485584132843. 3  
 485584132844. 4

**Question Number : 47 Question Id : 48558433212 Question Type : MCQ Option Shuffling : No Is Question Mandatory : No Calculator : None Response Time : N.A Think Time : N.A Minimum Instruction Time : 0**

**Correct Marks : 5 Wrong Marks : 1**

**Question Key Details :**

Key	Value
Comprehension	MCQ

Fill in the blanks with the most appropriate prepositions

I prefer tea \_\_\_\_\_ coffee

1. with
2. to
3. over
4. of

**Options :**

485584132845. 1  
 485584132846. 2  
 485584132847. 3  
 485584132848. 4

**Question Number : 48 Question Id : 48558433213 Question Type : MCQ Option Shuffling : No Is Question Mandatory : No Calculator : None Response Time : N.A Think Time : N.A Minimum Instruction Time : 0**

**Correct Marks : 5 Wrong Marks : 1**

**Question Key Details :**

Key	Value
Comprehension	MCQ

The soldiers were \_\_\_\_\_ war

1. at
2. in
3. on
4. of

**Options :**

485584132849. 1  
 485584132850. 2  
 485584132851. 3  
 485584132852. 4

**Question Number : 49 Question Id : 48558433214 Question Type : MCQ Option Shuffling : No Is Question Mandatory : No Calculator : None Response Time : N.A Think Time : N.A Minimum Instruction Time : 0**

**Correct Marks : 5 Wrong Marks : 1**

**Question Key Details :**

Key	Value
Comprehension	MCQ

Match the phrasal words with most appropriate meaning

LIST I		LIST II	
A.	draw up	I.	make someone sad or depressed
B.	drag out	II.	prepare and write something
C.	drag down	III.	use a resource to do something
D.	draw on	IV.	make something longer than necessary

Choose the correct answer from the options given below:

1. A-II, B-IV, C-I, D-III
2. A-I, B-II, C-III, D-IV
3. A-II, B-IV, C-III, D-I
4. A-I, B-II, C-IV, D-III

**Options :**

485584132853. 1  
 485584132854. 2  
 485584132855. 3  
 485584132856. 4

**Question Number : 50 Question Id : 48558433215 Question Type : MCQ Option Shuffling : No Is Question Mandatory : No Calculator : None Response Time : N.A Think Time : N.A Minimum Instruction Time : 0**

**Correct Marks : 5 Wrong Marks : 1**



**Question Key Details :**

Key	Value
Comprehension	MCQ

Match the idioms with most appropriate meaning

LIST I		LIST II	
A.	fish out of water	I.	good luck
B.	break a leg	II.	someone about whom very little is known
C.	leave in the lurch	III.	to be put in an unfamiliar situation
D.	dark horse	IV.	abandon someone in a difficult situation

Choose the correct answer from the options given below:

1. A-III, B-IV, C-II, D-I
2. A-III, B-I, C-IV, D-II
3. A-I, B-III, C-IV, D-II
4. A-II, B-I, C-I, D-IV

**Options :**

485584132857. 1  
 485584132858. 2  
 485584132859. 3  
 485584132860. 4

**Hindi**

<b>Group Number :</b>	2
<b>Group Id :</b>	485584740
<b>Group Maximum Duration :</b>	45
<b>Group Minimum Duration :</b>	45
<b>Show Attended Group? :</b>	No
<b>Edit Attended Group? :</b>	No
<b>Break time :</b>	0
<b>Group Marks :</b>	200
<b>Is this Group for Examiner? :</b>	No
<b>Examiner permission :</b>	Cant View
<b>Show Progress Bar? :</b>	No

**Hindi**

<b>Section Id :</b>	485584854
<b>Section Number :</b>	1
<b>Section type :</b>	Online
<b>Mandatory or Optional :</b>	Mandatory
<b>Number of Questions :</b>	50
<b>Number of Questions to be attempted :</b>	40
<b>Section Marks :</b>	200
<b>Enable Mark as Answered Mark for Review and Clear Response :</b>	Yes

<b>Maximum Instruction Time :</b>	0
<b>Sub-Section Number :</b>	1
<b>Sub-Section Id :</b>	4855842406
<b>Question Shuffling Allowed :</b>	No
<b>Is Section Default? :</b>	null
<b>Sub-Section Number :</b>	2
<b>Sub-Section Id :</b>	4855842407
<b>Question Shuffling Allowed :</b>	No
<b>Is Section Default? :</b>	null
<b>Sub-Section Number :</b>	3
<b>Sub-Section Id :</b>	4855842408
<b>Question Shuffling Allowed :</b>	No
<b>Is Section Default? :</b>	null
<b>Sub-Section Number :</b>	4
<b>Sub-Section Id :</b>	4855842409
<b>Question Shuffling Allowed :</b>	Yes
<b>Is Section Default? :</b>	null

### Assamese

<b>Group Number :</b>	3
<b>Group Id :</b>	485584741
<b>Group Maximum Duration :</b>	45
<b>Group Minimum Duration :</b>	45
<b>Show Attended Group? :</b>	No
<b>Edit Attended Group? :</b>	No
<b>Break time :</b>	0
<b>Group Marks :</b>	200
<b>Is this Group for Examiner? :</b>	No
<b>Examiner permission :</b>	Cant View
<b>Show Progress Bar? :</b>	No

### Assamese

<b>Section Id :</b>	485584855
<b>Section Number :</b>	1
<b>Section type :</b>	Online
<b>Mandatory or Optional :</b>	Mandatory
<b>Number of Questions :</b>	50
<b>Number of Questions to be attempted :</b>	40
<b>Section Marks :</b>	200
<b>Enable Mark as Answered Mark for Review and Clear Response :</b>	Yes
<b>Maximum Instruction Time :</b>	0
<b>Sub-Section Number :</b>	1
<b>Sub-Section Id :</b>	4855842410
<b>Question Shuffling Allowed :</b>	No
<b>Is Section Default? :</b>	null
<b>Sub-Section Number :</b>	2
<b>Sub-Section Id :</b>	4855842411
<b>Question Shuffling Allowed :</b>	No
<b>Is Section Default? :</b>	null
<b>Sub-Section Number :</b>	3

<b>Sub-Section Id :</b>	4855842412
<b>Question Shuffling Allowed :</b>	No
<b>Is Section Default? :</b>	null
<b>Sub-Section Number :</b>	4
<b>Sub-Section Id :</b>	4855842413
<b>Question Shuffling Allowed :</b>	Yes
<b>Is Section Default? :</b>	null

## Kannada

<b>Group Number :</b>	4
<b>Group Id :</b>	485584742
<b>Group Maximum Duration :</b>	45
<b>Group Minimum Duration :</b>	45
<b>Show Attended Group? :</b>	No
<b>Edit Attended Group? :</b>	No
<b>Break time :</b>	0
<b>Group Marks :</b>	200
<b>Is this Group for Examiner? :</b>	No
<b>Examiner permission :</b>	Cant View
<b>Show Progress Bar? :</b>	No

## Kannada

<b>Section Id :</b>	485584856
<b>Section Number :</b>	1
<b>Section type :</b>	Online
<b>Mandatory or Optional :</b>	Mandatory
<b>Number of Questions :</b>	50
<b>Number of Questions to be attempted :</b>	40
<b>Section Marks :</b>	200
<b>Enable Mark as Answered Mark for Review and Clear Response :</b>	Yes
<b>Maximum Instruction Time :</b>	0
<b>Sub-Section Number :</b>	1
<b>Sub-Section Id :</b>	4855842414
<b>Question Shuffling Allowed :</b>	No
<b>Is Section Default? :</b>	null
<b>Sub-Section Number :</b>	2
<b>Sub-Section Id :</b>	4855842415
<b>Question Shuffling Allowed :</b>	No
<b>Is Section Default? :</b>	null
<b>Sub-Section Number :</b>	3
<b>Sub-Section Id :</b>	4855842416
<b>Question Shuffling Allowed :</b>	No
<b>Is Section Default? :</b>	null
<b>Sub-Section Number :</b>	4
<b>Sub-Section Id :</b>	4855842417
<b>Question Shuffling Allowed :</b>	Yes
<b>Is Section Default? :</b>	null

## Japanese

Group Number :	5
Group Id :	485584743
Group Maximum Duration :	45
Group Minimum Duration :	45
Show Attended Group? :	No
Edit Attended Group? :	No
Break time :	0
Group Marks :	200
Is this Group for Examiner? :	No
Examiner permission :	Cant View
Show Progress Bar? :	No

## Japanese

Section Id :	485584857
Section Number :	1
Section type :	Online
Mandatory or Optional :	Mandatory
Number of Questions :	50
Number of Questions to be attempted :	40
Section Marks :	200
Enable Mark as Answered Mark for Review and Clear Response :	Yes
Maximum Instruction Time :	0
Sub-Section Number :	1
Sub-Section Id :	4855842418
Question Shuffling Allowed :	No
Is Section Default? :	null
Sub-Section Number :	2
Sub-Section Id :	4855842419
Question Shuffling Allowed :	No
Is Section Default? :	null
Sub-Section Number :	3
Sub-Section Id :	4855842420
Question Shuffling Allowed :	No
Is Section Default? :	null
Sub-Section Number :	4
Sub-Section Id :	4855842421
Question Shuffling Allowed :	Yes
Is Section Default? :	null

## Entrepreneurship

Group Number :	6
Group Id :	485584744
Group Maximum Duration :	45
Group Minimum Duration :	45
Show Attended Group? :	No
Edit Attended Group? :	No
Break time :	0
Group Marks :	200

Is this Group for Examiner? : No  
Examiner permission : Cant View  
Show Progress Bar? : No

## Entrepreneurship

Section Id : 485584858  
Section Number : 1  
Section type : Online  
Mandatory or Optional : Mandatory  
Number of Questions : 50  
Number of Questions to be attempted : 40  
Section Marks : 200  
Enable Mark as Answered Mark for Review and Clear Response : Yes  
Maximum Instruction Time : 0  
Sub-Section Number : 1  
Sub-Section Id : 4855842422  
Question Shuffling Allowed : Yes  
Is Section Default? : null

Question Number : 51 Question Id : 48558433466 Question Type : MCQ Option Shuffling : No Is Question Mandatory :  
No Calculator : None Response Time : N.A Think Time : N.A Minimum Instruction Time : 0  
Correct Marks : 5 Wrong Marks : 1

Question Key Details :

Key	Value
Comprehension	MCQ

Creativity process occurs in the following sequence:

- A. Illumination
- B. Preparation
- C. Verification
- D. Idea Germination
- E. Incubation

Choose the correct answer from the options given below:

- 1. B, A, D, C, E
- 2. D, B, E, A, C
- 3. B, D, A, E, C
- 4. A, C, D, B, E

Options :

- 485584133861. 1
- 485584133862. 2
- 485584133863. 3
- 485584133864. 4

Question Number : 51 Question Id : 48558433466 Question Type : MCQ Option Shuffling : No Is Question Mandatory :  
No Calculator : None Response Time : N.A Think Time : N.A Minimum Instruction Time : 0  
Correct Marks : 5 Wrong Marks : 1

**Question Key Details :**

Key	Value
Comprehension	MCQ

ക്രിയേറ്റിവിറ്റി പ്രോസസിലെ നടപടികളുടെ ക്രമം:

- A. ഇലയുമിനേഷൻ
- B. പ്രിപ്പറേഷൻ
- C. വെരിഫിക്കേഷൻ
- D. ഐഡിയ ജർമിനേഷൻ
- E. ഇൻകുബേഷൻ

താഴെ തന്നിരിക്കുന്ന ഓപ്ഷനുകളിൽ നിന്നും ശരിയുത്തരം തിരഞ്ഞെടുക്കുക:

- 1. B, A, D, C, E
- 2. D, B, E, A, C
- 3. B, D, A, E, C
- 4. A, C, D, B, E

**Options :**

- 485584133861. 1
- 485584133862. 2
- 485584133863. 3
- 485584133864. 4

**Question Number : 52 Question Id : 48558433467 Question Type : MCQ Option Shuffling : No Is Question Mandatory : No Calculator : None Response Time : N.A Think Time : N.A Minimum Instruction Time : 0**

**Correct Marks : 5 Wrong Marks : 1**

**Question Key Details :**

Key	Value
Comprehension	MCQ

All ideas may not become a sound business opportunity. Therefore we need to assess the idea and opportunity by following a correct sequence. Rearrange the steps in the correct order.

- A. Level of operation
- B. Product identification
- C. Cost of production
- D. Competition
- E. Application and use

Choose the correct answer from the options given below:

- 1. B, A, D, C, E
- 2. B, E, A, C, D
- 3. C, A, B, E, D
- 4. B, E, A, D, C

**Options :**

- 485584133865. 1
- 485584133866. 2
- 485584133867. 3
- 485584133868. 4

**Question Number : 52 Question Id : 48558433467 Question Type : MCQ Option Shuffling : No Is Question Mandatory : No Calculator : None Response Time : N.A Think Time : N.A Minimum Instruction Time : 0**

**Correct Marks : 5 Wrong Marks : 1**

**Question Key Details :**

Key	Value
Comprehension	MCQ

എല്ലാ ആശയങ്ങളും ഉചിതമായ ബിസിനസ് അവസരങ്ങൾ ആകണമെന്നില്ല. അതുകൊണ്ട് തന്നെ ഇത്തരം ആശയങ്ങളെയും അവസരങ്ങളെയും താഴെ നൽകിയിരിക്കുന്ന നടപടിക്രമങ്ങളിലൂടെ വിലയിരുത്തേണ്ടതുണ്ട്. അവയുടെ ശരിയായ ക്രമം ഏത്?

- A. പ്രവർത്തന തലം
- B. ഉൽപന്ന നിർണ്ണയം
- C. ഉൽപാദന ചെലവ്
- D. മത്സരസ്ഥിതി
- E. പ്രയോഗവും ഉപയോഗങ്ങളും

താഴെ തന്നിരിക്കുന്ന ഓപ്ഷനുകളിൽ നിന്നും ശരിയുത്തരം തിരഞ്ഞെടുക്കുക:

- 1. B, A, D, C, E
- 2. B, E, A, C, D
- 3. C, A, B, E, D
- 4. B, E, A, D, C

**Options :**

- 485584133865. 1
- 485584133866. 2
- 485584133867. 3
- 485584133868. 4

**Question Number : 53 Question Id : 48558433468 Question Type : MCQ Option Shuffling : No Is Question Mandatory : No Calculator : None Response Time : N.A Think Time : N.A Minimum Instruction Time : 0**

**Correct Marks : 5 Wrong Marks : 1**

**Question Key Details :**

Key	Value
Comprehension	MCQ

\_\_\_\_\_ are 'Convenient frames of reference for streamlining the process of generation of ideas'.

1. Reference fields
2. Idea generation
3. Idea fields
4. Product generation

**Options :**

485584133869. 1  
485584133870. 2  
485584133871. 3  
485584133872. 4

**Question Number : 53 Question Id : 48558433468 Question Type : MCQ Option Shuffling : No Is Question Mandatory : No Calculator : None Response Time : N.A Think Time : N.A Minimum Instruction Time : 0**

**Correct Marks : 5 Wrong Marks : 1**

**Question Key Details :**

Key	Value
Comprehension	MCQ

ആശയ രൂപീകരണ പ്രക്രിയ കാര്യക്ഷമമാക്കുന്നതിനുള്ള ഉചിതമായ മാതൃകകളാണ് \_\_\_\_\_.

1. റഫറൻസ് ഫീൽഡുകൾ
2. ആശയ രൂപീകരണം
3. ആശയ ഫീൽഡുകൾ
4. ഉൽപ്പന്ന സൃഷ്ടി

**Options :**

485584133869. 1  
485584133870. 2  
485584133871. 3  
485584133872. 4

**Question Number : 54 Question Id : 48558433469 Question Type : MCQ Option Shuffling : No Is Question Mandatory : No Calculator : None Response Time : N.A Think Time : N.A Minimum Instruction Time : 0**

**Correct Marks : 5 Wrong Marks : 1**

**Question Key Details :**

Key	Value
Comprehension	MCQ



While on a family outing to a nearby mall by the name of 'RB Mall', Mr. Harji saw that most people coming to the mall forgot their mask, and had to pay a fine ranging from ₹500 to ₹2000/-. So he decided to open a shop for selling mask at the mall entrance. Identify the trend:

1. Read Trend
2. See Trend
3. Watch Trend
4. Talk Trend

**Options :**

- 485584133873. 1
- 485584133874. 2
- 485584133875. 3
- 485584133876. 4

**Question Number : 54 Question Id : 48558433469 Question Type : MCQ Option Shuffling : No Is Question Mandatory : No Calculator : None Response Time : N.A Think Time : N.A Minimum Instruction Time : 0**

**Correct Marks : 5 Wrong Marks : 1**

**Question Key Details :**

Key	Value
Comprehension	MCQ

'RB' മാളിൽ കുടുംബ സമേതം സന്ദർശിക്കുന്ന അവസരത്തിൽ, മാളിൽ എത്തുന്ന പല ആൾക്കാരും മാസ്ക് ധരിക്കാൻ മറന്നു പോകുന്നതു കൊണ്ട് 500 മുതൽ 2000 രൂപ വരെ പിഴ അടയ്ക്കുന്നതായി 'ഹാർജി'യുടെ ശ്രദ്ധയിൽ പെട്ടു. അങ്ങനെ മാളിന്റെ പ്രവേശന കവാടത്തിൽ മാസ്ക് വിൽക്കുന്നതിനുള്ള ഒരു ഷോപ്പ് ആരംഭിക്കാൻ തീരുമാനിച്ചു. ഇത് ഏതു തരം പ്രവണതാ വിശകലനമാണ്:

1. വായനാ പ്രവണത
2. കാഴ്ചാ പ്രവണത
3. വീക്ഷണ പ്രവണത
4. വാചിക പ്രവണത

**Options :**

- 485584133873. 1
- 485584133874. 2
- 485584133875. 3
- 485584133876. 4

**Question Number : 55 Question Id : 48558433470 Question Type : MCQ Option Shuffling : No Is Question Mandatory : No Calculator : None Response Time : N.A Think Time : N.A Minimum Instruction Time : 0**

**Correct Marks : 5 Wrong Marks : 1**

**Question Key Details :**

Key	Value
Comprehension	MCQ

'Mansukhbhai Prajapati thought of a non-stick pan made from clay and a clay refrigerator that works without electricity.' Which step of creative process is discussed above?

- 1. Preparation
- 2. Idea germination
- 3. Incubation
- 4. Illumination

**Options :**

- 485584133877. 1
- 485584133878. 2
- 485584133879. 3
- 485584133880. 4

**Question Number : 55 Question Id : 48558433470 Question Type : MCQ Option Shuffling : No Is Question Mandatory : No Calculator : None Response Time : N.A Think Time : N.A Minimum Instruction Time : 0**

**Correct Marks : 5 Wrong Marks : 1**

**Question Key Details :**

Key	Value
Comprehension	MCQ

മാൻസുഖ്ഭായ് പ്രജാപതി, കളിമണ്ണിൽ നിന്നുള്ള ഒരു നോൺ സ്റ്റിക്ക് പാനും വൈദ്യുതി ഇല്ലാതെ പ്രവർത്തിക്കുന്ന ഒരു കളിമൺ റഫ്രിജറേറ്ററും നിർമ്മിക്കാൻ ആലോചിക്കുന്നു. ക്രിയേറ്റിവിറ്റി പ്രക്രിയയിലെ ഏത് നടപടിക്രമം ആണ് ഇവിടെ പ്രതിപാദിക്കുന്നത്:

- 1. പ്രിപ്പറേഷൻ
- 2. ഐഡിയ ജർമിനേഷൻ
- 3. ഇൻകുബേഷൻ
- 4. ഇല്യൂമിനേഷൻ

**Options :**

- 485584133877. 1
- 485584133878. 2
- 485584133879. 3
- 485584133880. 4

**Question Number : 56 Question Id : 48558433471 Question Type : MCQ Option Shuffling : No Is Question Mandatory : No Calculator : None Response Time : N.A Think Time : N.A Minimum Instruction Time : 0**

**Correct Marks : 5 Wrong Marks : 1**

**Question Key Details :**

Key	Value
Comprehension	MCQ

In which type of opportunity assessment step, you examine an idea through finding out whether the product is present in use and you may think of modifying it for the better use?

1. Level of operation
2. Cost
3. Application and use
4. Competition

**Options :**

- 485584133881. 1
- 485584133882. 2
- 485584133883. 3
- 485584133884. 4

**Question Number : 56 Question Id : 48558433471 Question Type : MCQ Option Shuffling : No Is Question Mandatory : No Calculator : None Response Time : N.A Think Time : N.A Minimum Instruction Time : 0**

**Correct Marks : 5 Wrong Marks : 1**

**Question Key Details :**

Key	Value
Comprehension	MCQ

നിലവിലുള്ള ഒരു ഉല്പന്നം കൂടുതൽ മെച്ചപ്പെടുത്തി അതിന്റെ ഉപയോഗം കാര്യക്ഷമമാക്കുന്ന ഒരു ആശയം നിങ്ങൾ വിലയിരുത്തുന്നുവെങ്കിൽ, ഇത് അവസര വിലയിരുത്തലിന്റെ ഏത് ഘട്ടവുമായി ബന്ധപ്പെട്ടിരിക്കുന്നു?

1. പ്രവർത്തന തലം
2. ചെലവ്
3. പ്രയോഗവും ഉപയോഗവും
4. മത്സരസ്ഥിതി

**Options :**

- 485584133881. 1
- 485584133882. 2
- 485584133883. 3
- 485584133884. 4

**Question Number : 57 Question Id : 48558433472 Question Type : MCQ Option Shuffling : No Is Question Mandatory : No Calculator : None Response Time : N.A Think Time : N.A Minimum Instruction Time : 0**

**Correct Marks : 5 Wrong Marks : 1**

**Question Key Details :**

Key	Value
Comprehension	MCQ

Family dinner, Speciality Tourism, Career Counselling Centres and Ice-cream Parlours are a part of which idea field?

1. Creative Efforts
2. Trading related Ideas
3. Service Sector Ideas
4. Market Driven Ideas

**Options :**

- 485584133885. 1
- 485584133886. 2
- 485584133887. 3
- 485584133888. 4

**Question Number : 57 Question Id : 48558433472 Question Type : MCQ Option Shuffling : No Is Question Mandatory : No Calculator : None Response Time : N.A Think Time : N.A Minimum Instruction Time : 0**

**Correct Marks : 5 Wrong Marks : 1**

**Question Key Details :**

Key	Value
Comprehension	MCQ

Family dinner, Speciality Tourism, Career Counselling Centres and Ice-cream Parlours are a part of which idea field?

1. Creative Efforts
2. Trading related Ideas
3. Service Sector Ideas
4. Market Driven Ideas

**Options :**

- 485584133885. 1
- 485584133886. 2
- 485584133887. 3
- 485584133888. 4

**Question Number : 58 Question Id : 48558433473 Question Type : MCQ Option Shuffling : No Is Question Mandatory : No Calculator : None Response Time : N.A Think Time : N.A Minimum Instruction Time : 0**

**Correct Marks : 5 Wrong Marks : 1**

**Question Key Details :**

Key	Value
Comprehension	MCQ

Avantika did a course in food preservation and decided to set up her own business of food preservation, canning, freezing and pickling. Identify the type of natural resource used by her:

- 1. Flowers
- 2. Medicinal Herbs
- 3. Citrus and other fruits
- 4. Horticulture

**Options :**

- 485584133889. 1
- 485584133890. 2
- 485584133891. 3
- 485584133892. 4

**Question Number : 58 Question Id : 48558433473 Question Type : MCQ Option Shuffling : No Is Question Mandatory : No Calculator : None Response Time : N.A Think Time : N.A Minimum Instruction Time : 0**

**Correct Marks : 5 Wrong Marks : 1**

**Question Key Details :**

Key	Value
Comprehension	MCQ

ഭക്ഷ്യ സംസ്കരണവുമായി ബന്ധപ്പെട്ട ഒരു കോഴ്സ് അവന്ദിക പൂർത്തിയാക്കിയ ശേഷം, ഭക്ഷ്യ സംസ്കരണവും ശീതീകരിക്കലും അച്ചാറുകൾ ഉണ്ടാക്കുന്നതുമായ ഒരു ബിസിനസ് ആരംഭിക്കാൻ തീരുമാനിച്ചു. ഏതു തരം പ്രകൃതി വിഭവങ്ങളാണ് ഇവിടെ ഉപയോഗിക്കുന്നതെന്ന് കണ്ടെത്തുക:

- 1. പൂക്കൾ
- 2. പച്ച മരുന്നുകൾ
- 3. നാരങ്ങയും മറ്റ് ഫലവർഗങ്ങളും
- 4. പുനോട്ട നിർമ്മാണം

**Options :**

- 485584133889. 1
- 485584133890. 2
- 485584133891. 3
- 485584133892. 4

**Question Number : 59 Question Id : 48558433474 Question Type : MCQ Option Shuffling : No Is Question Mandatory : No Calculator : None Response Time : N.A Think Time : N.A Minimum Instruction Time : 0**

**Correct Marks : 5 Wrong Marks : 1**

**Question Key Details :**

Key	Value
Comprehension	MCQ

Identify the term related with concept of "gain generated on an investment relative to the amount of money invested by the shareholder".

1. Returns on Investment
2. Capital Gain
3. Return on Equity
4. Economic Order Quantity

**Options :**

- 485584133893. 1
- 485584133894. 2
- 485584133895. 3
- 485584133896. 4

**Question Number : 59 Question Id : 48558433474 Question Type : MCQ Option Shuffling : No Is Question Mandatory : No Calculator : None Response Time : N.A Think Time : N.A Minimum Instruction Time : 0**

**Correct Marks : 5 Wrong Marks : 1**

**Question Key Details :**

Key	Value
Comprehension	MCQ

"നിക്ഷേപത്തിൽ നിന്നുള്ള പ്രതിഫലവും ഓഹരി ഉടമകൾ നിക്ഷേപിച്ച മൂലധന തുകയുമായി താരതമ്യം ചെയ്യുന്നു" ഈ ആശയം ഏതുമായി ബന്ധപ്പെട്ടിരിക്കുന്നുവെന്ന് കണ്ടെത്തുക:

1. നിക്ഷേപത്തിൽ നിന്നുള്ള പ്രതിഫലം
2. മൂലധന നേട്ടം
3. ഇക്വിറ്റിയിൽ നിന്നുള്ള പ്രതിഫലം
4. ഇക്കണോമിക് ഓർഡർ ക്വാണ്ടിറ്റി

**Options :**

- 485584133893. 1
- 485584133894. 2
- 485584133895. 3
- 485584133896. 4

**Question Number : 60 Question Id : 48558433475 Question Type : MCQ Option Shuffling : No Is Question Mandatory : No Calculator : None Response Time : N.A Think Time : N.A Minimum Instruction Time : 0**

**Correct Marks : 5 Wrong Marks : 1**

**Question Key Details :**

Key	Value
Comprehension	MCQ

Shreya has prepared her business plan and is stuck at the marketing plan for her enterprise. Suggest correct steps to her for marketing plan.

- A. Business Situation Analysis
- B. Define marketing Strategy
- C. Conduct SWOT Analysis
- D. Identify the target Market
- E. Establish goals

Choose the correct answer from the options given below:

- 1. A—B—C—D—E
- 2. A—D—C—E—B
- 3. A—C—D—E—B
- 4. A—D—C—B—E

**Options :**

- 485584133897. 1
- 485584133898. 2
- 485584133899. 3
- 485584133900. 4

**Question Number : 60 Question Id : 48558433475 Question Type : MCQ Option Shuffling : No Is Question Mandatory : No Calculator : None Response Time : N.A Think Time : N.A Minimum Instruction Time : 0**

**Correct Marks : 5 Wrong Marks : 1**

**Question Key Details :**

Key	Value
Comprehension	MCQ

തന്റെ സ്ഥാപനത്തിനായി ബിസിനസ് പ്ലാൻ തയ്യാറാക്കുമ്പോൾ വിപണന പ്ലാൻ തയ്യാറാക്കുന്നതിൽ പ്രയാസം നേരിട്ടു. ഈ വിപണന പ്ലാൻ തയ്യാറാക്കുന്നതിലെ നടപടിക്രമങ്ങൾ നിർദ്ദേശിക്കുക:

- A. ബിസിനസ് സ്ഥിതി വിശകലനം
- B. വിപണന തന്ത്രങ്ങൾ നിർവ്വചിക്കുക
- C. ശക്തി-ദുർബ്ബല്യങ്ങളുടെ വിശകലനം
- D. ലക്ഷ്യ വിപണി നിർണ്ണയിക്കുക
- E. ലക്ഷ്യം നിശ്ചയിക്കുക

താഴെ തന്നിരിക്കുന്ന ഓപ്ഷനുകളിൽ നിന്നും ശരിയുത്തരം തിരഞ്ഞെടുക്കുക

- 1. A—B—C—D—E
- 2. A—D—C—E—B
- 3. A—C—D—E—B
- 4. A—D—C—B—E

**Options :**

- 485584133897. 1

485584133898. 2  
485584133899. 3  
485584133900. 4

**Question Number : 61 Question Id : 48558433476 Question Type : MCQ Option Shuffling : No Is Question Mandatory : No Calculator : None Response Time : N.A Think Time : N.A Minimum Instruction Time : 0**

**Correct Marks : 5 Wrong Marks : 1**

**Question Key Details :**

Key	Value
Comprehension	MCQ

"Thinking in advance, what is to be done, when it is to be done, how to be done and by whom it should be done." defines

1. Problem Solving
2. Decision Making
3. Planning
4. Spotting opportunity

**Options :**

485584133901. 1  
485584133902. 2  
485584133903. 3  
485584133904. 4

**Question Number : 61 Question Id : 48558433476 Question Type : MCQ Option Shuffling : No Is Question Mandatory : No Calculator : None Response Time : N.A Think Time : N.A Minimum Instruction Time : 0**

**Correct Marks : 5 Wrong Marks : 1**

**Question Key Details :**

Key	Value
Comprehension	MCQ

"എന്ത് ചെയ്യണം, എപ്പോൾ ചെയ്യണം, എങ്ങനെ ചെയ്യണം, ആർ ചെയ്യണം എന്നിവയെല്ലാം മുൻകൂട്ടി തീരുമാനിക്കുന്നത്." ഇത് എന്തിനുള്ള നിർവചനമാണ്?

1. പ്രശ്ന പരിഹാരം
2. തീരുമാനം എടുക്കൽ
3. ആസൂത്രണം
4. അവസര നിർണ്ണയം

**Options :**

485584133901. 1  
485584133902. 2  
485584133903. 3  
485584133904. 4

**Question Number : 62 Question Id : 48558433477 Question Type : MCQ Option Shuffling : No Is Question Mandatory : No Calculator : None Response Time : N.A Think Time : N.A Minimum Instruction Time : 0**



Correct Marks : 5 Wrong Marks : 1

Question Key Details :

Key	Value
Comprehension	MCQ

'How do we get there' question in marketing plan doesn't discuss:

1. The specific marketing strategy that will be implemented
2. When it will occur ?
3. Who will be responsible for the monitoring of activities ?
4. What need it satisfies ?

Options :

- 485584133905. 1
- 485584133906. 2
- 485584133907. 3
- 485584133908. 4

Question Number : 62 Question Id : 48558433477 Question Type : MCQ Option Shuffling : No Is Question Mandatory : No Calculator : None Response Time : N.A Think Time : N.A Minimum Instruction Time : 0

Correct Marks : 5 Wrong Marks : 1

Question Key Details :

Key	Value
Comprehension	MCQ

'നമ്മൾ എങ്ങനെ അവിടെ എത്തും' എന്ന വിപണന പ്ലാനിനെ ചോദ്യവുമായി ബന്ധമില്ലാത്തത് ഏത്?

1. നടപ്പിലാക്കേണ്ട പ്രത്യേക വിപണന തന്ത്രം
2. എപ്പോഴാണ് ഇത് സംഭവിക്കുന്നത്?
3. പ്രവർത്തനങ്ങളെ നിയന്ത്രിക്കാൻ ഉത്തരവാദിത്തം ഉള്ളത് ആർക്കാണ്?
4. ഏത് ആഗ്രഹമാണ് ഇത് സഹലീകരിക്കുന്നത്?

Options :

- 485584133905. 1
- 485584133906. 2
- 485584133907. 3
- 485584133908. 4

Question Number : 63 Question Id : 48558433478 Question Type : MCQ Option Shuffling : No Is Question Mandatory : No Calculator : None Response Time : N.A Think Time : N.A Minimum Instruction Time : 0

Correct Marks : 5 Wrong Marks : 1

Question Key Details :

Key	Value
Comprehension	MCQ

Raghav is the owner of a business. He wants to transfer his ownership to his daughter Poorvi. He can do this without taking permission from anyone if the business is a \_\_\_\_\_ (Fill in the blank.)

1. Partnership firm
2. Public limited company
3. Private limited company
4. Sole Proprietorship

**Options :**

- 485584133909. 1
- 485584133910. 2
- 485584133911. 3
- 485584133912. 4

**Question Number : 63 Question Id : 48558433478 Question Type : MCQ Option Shuffling : No Is Question Mandatory : No Calculator : None Response Time : N.A Think Time : N.A Minimum Instruction Time : 0**

**Correct Marks : 5 Wrong Marks : 1**

**Question Key Details :**

Key	Value
Comprehension	MCQ

രാഘവ് ഒരു ബിസിനസ് ഉടമയാണ്. തന്റെ മകളായ പൂർവിക്ക് ഈ ബിസിനസിന്റെ ഉടമസ്ഥാവകാശം കൈമാറാൻ അയാൾ ആഗ്രഹിക്കുന്നു. ഇത് \_\_\_\_\_ ബിസിനസ് ആണെങ്കിൽ മറ്റുള്ള ആരുടെയും അനുമതി കൂടാതെ ഈ കാര്യം ചെയ്യാൻ കഴിയും (ഉചിതമായി പൂരിപ്പിക്കുക).

1. പങ്കാളിത്ത സ്ഥാപനം
2. പൊതു ക്ലിപ്ത കമ്പനി
3. സ്വകാര്യ ക്ലിപ്ത കമ്പനി
4. ഏകാംഗ വ്യാപാര സ്ഥാപനം

**Options :**

- 485584133909. 1
- 485584133910. 2
- 485584133911. 3
- 485584133912. 4

**Question Number : 64 Question Id : 48558433479 Question Type : MCQ Option Shuffling : No Is Question Mandatory : No Calculator : None Response Time : N.A Think Time : N.A Minimum Instruction Time : 0**

**Correct Marks : 5 Wrong Marks : 1**

**Question Key Details :**

Key	Value
Comprehension	MCQ

\_\_\_\_\_ element of business plan helps the entrepreneur to carefully evaluate and decide the legal structure of the organisation. Fill in the above blank with correct option:

1. Organisational plan
2. Marketing plan
3. Financial plan
4. Production plan

**Options :**

- 485584133913. 1
- 485584133914. 2
- 485584133915. 3
- 485584133916. 4

**Question Number : 64 Question Id : 48558433479 Question Type : MCQ Option Shuffling : No Is Question Mandatory : No Calculator : None Response Time : N.A Think Time : N.A Minimum Instruction Time : 0**

**Correct Marks : 5 Wrong Marks : 1**

**Question Key Details :**

Key	Value
Comprehension	MCQ

ഒരു സ്ഥാപനത്തിന്റെ നിയമപരമായ ഘടന ശ്രദ്ധയോടെ വിലയിരുത്താനും തീരുമാനിക്കാനും ഒരു സംരംഭകനെ സഹായിക്കുന്ന ബിസിനസ് പ്ലാനിന്റെ ഘടകം \_\_\_\_\_ ആണ്. (ശരിയായ ഉത്തരം നൽകി പൂരിപ്പിക്കുക)

1. സ്ഥാപനപരമായ പ്ലാൻ
2. വിപണന പ്ലാൻ
3. ധനകാര്യ പ്ലാൻ
4. ഉൽപാദന പ്ലാൻ

**Options :**

- 485584133913. 1
- 485584133914. 2
- 485584133915. 3
- 485584133916. 4

**Question Number : 65 Question Id : 48558433480 Question Type : MCQ Option Shuffling : No Is Question Mandatory : No Calculator : None Response Time : N.A Think Time : N.A Minimum Instruction Time : 0**

**Correct Marks : 5 Wrong Marks : 1**

**Question Key Details :**

Key	Value
Comprehension	MCQ

Mannat, a student of entrepreneurship decided to start her venture of manufacturing "Flood rescuing raft". For funding, she contacted one of the angel investors who suggested her to prepare a three minute summary of her business plan. Identify from the following options, the format of business plan suggested to Mannat, which is often used as a teaser to awaken the interest of potential funders, customers etc.

1. A well written presentation for external shareholders
2. An internal operational plan
3. A pitch deck with oral narratives
4. Elevator pitch

**Options :**

- 485584133917. 1
- 485584133918. 2
- 485584133919. 3
- 485584133920. 4

**Question Number : 65 Question Id : 48558433480 Question Type : MCQ Option Shuffling : No Is Question Mandatory : No Calculator : None Response Time : N.A Think Time : N.A Minimum Instruction Time : 0**

**Correct Marks : 5 Wrong Marks : 1**

**Question Key Details :**

Key	Value
Comprehension	MCQ

സംരംഭകത്വ വിദ്യാർത്ഥിയായ 'മന്നത്ത്', വെള്ളപ്പൊക്കത്തിൽ നിന്നും രക്ഷിക്കാനുള്ള ചങ്ങാടങ്ങൾ നിർമ്മിക്കുന്ന ഒരു സംരംഭം തുടങ്ങാൻ തീരുമാനിച്ചു. ഫണ്ടുകൾ ലഭിക്കുന്നതിനായി ഒരു എയ്ഞ്ചൽ നിക്ഷേപകനെ സമീപിച്ചപ്പോൾ, അവളുടെ ബിസിനസ് പ്ലാനിന്റെ മൂന്ന് മിനിറ്റ് ദൈർഘ്യമുള്ള ഒരു സംക്ഷിപ്ത തയാറാക്കാൻ നിർദ്ദേശിച്ചു. പ്രതീക്ഷിത നിക്ഷേപകരെയും ഉപഭോക്താക്കളെയും താൽപര്യങ്ങളെയും ഉണർത്താൻ ഉപയോഗിക്കുന്ന ഇത്തരം പ്രചാരണ ചിത്രങ്ങൾ ബിസിനസ് പ്ലാനുകളുടെ ഏത് മാതൃകാ രൂപമാണെന്ന് കണ്ടെത്തുക:

1. ബാഹ്യ ഓഹരി ഉടമകൾക്കായുള്ള എഴുതിയിട്ടുള്ള അവതരണം
2. ഒരു ആഭ്യന്തര പ്രവർത്തന പ്ലാൻ
3. വാചിക വിശദീകരണത്തോടു കൂടിയ പിച്ച് ഡെക്ക്
4. എലവേറ്റർ പിച്ച്

**Options :**

- 485584133917. 1
- 485584133918. 2
- 485584133919. 3
- 485584133920. 4

**Question Number : 66 Question Id : 48558433481 Question Type : MCQ Option Shuffling : No Is Question Mandatory : No Calculator : None Response Time : N.A Think Time : N.A Minimum Instruction Time : 0**

**Correct Marks : 5 Wrong Marks : 1**

**Question Key Details :**

Key	Value
Comprehension	MCQ

Select the option that enlists all the micro environment factors from the following

- A. Competition
- B. Rate of Inflation
- C. Suppliers
- D. Customers
- E. Size of young population of India.

Choose the correct answer from the options given below:

- 1. B, D, E only
- 2. A, C, D only
- 3. C, D, E only
- 4. B, C, D only

**Options :**

- 485584133921. 1
- 485584133922. 2
- 485584133923. 3
- 485584133924. 4

**Question Number : 66 Question Id : 48558433481 Question Type : MCQ Option Shuffling : No Is Question Mandatory : No Calculator : None Response Time : N.A Think Time : N.A Minimum Instruction Time : 0**

**Correct Marks : 5 Wrong Marks : 1**

**Question Key Details :**

Key	Value
Comprehension	MCQ

സൂക്ഷ്മ പരിസ്ഥിതി ഘടകങ്ങളിൽ ഉൾപ്പെടുന്നവ ഏതെല്ലാം?

- A. മത്സരങ്ങൾ
- B. പണപ്പെരുപ്പ നിരക്ക്
- C. വിതരണക്കാർ
- D. ഉപഭോക്താക്കൾ
- E. ഇന്ത്യയിലെ യുവാക്കളുടെ ജനസംഖ്യ

താഴെ തന്നിരിക്കുന്ന ഓപ്ഷനുകളിൽ നിന്നും ശരിയുത്തരം തിരഞ്ഞെടുക്കുക:

- 1. B, D, E മാത്രം
- 2. A, C, D മാത്രം
- 3. C, D, E മാത്രം
- 4. B, C, D മാത്രം

**Options :**

- 485584133921. 1
- 485584133922. 2

485584133923. 3

485584133924. 4

**Question Number : 67 Question Id : 48558433482 Question Type : MCQ Option Shuffling : No Is Question Mandatory : No Calculator : None Response Time : N.A Think Time : N.A Minimum Instruction Time : 0**

**Correct Marks : 5 Wrong Marks : 1**

**Question Key Details :**

Key	Value
Comprehension	MCQ

Match List I with List II

LIST I Components of financial plan		LIST II Features	
A.	Proforma investment decision	I.	The amount of cash available
B.	Proforma Financing decision	II.	How much funds are required
C.	Proforma cash flow	III.	Protected net profit
D.	Proforma Income Statement	IV.	Where will funds come from

Choose the correct answer from the options given below:

1. A-I, B-II, C-III, D-IV
2. A-II, B-IV, C-I, D-III
3. A-IV, B-III, C-II, D-I
4. A-III, B-II, C-I, D-IV

**Options :**

485584133925. 1

485584133926. 2

485584133927. 3

485584133928. 4

**Question Number : 67 Question Id : 48558433482 Question Type : MCQ Option Shuffling : No Is Question Mandatory : No Calculator : None Response Time : N.A Think Time : N.A Minimum Instruction Time : 0**

**Correct Marks : 5 Wrong Marks : 1**

**Question Key Details :**

Key	Value
Comprehension	MCQ

പട്ടിക I, പട്ടിക II എന്നിവ ചേരുംപടി ചേർക്കുക

പട്ടിക I ധനകാര്യ പ്ലാനിന്റെ ഘടകങ്ങൾ		പട്ടിക II പ്രത്യേകതകൾ	
A.	നിക്ഷേപ തീരുമാന മാതൃക	I.	ലഭ്യമായ പണത്തിന്റെ അളവ്
B.	ധനസമാഹരണ തീരുമാന മാതൃക	II.	എത്ര മാത്രം ഫണ്ട് ആവശ്യമുണ്ട്
C.	പണപ്രവാഹ മാതൃക	III.	സംരക്ഷിത അറ്റ ലാഭം
D.	വരുമാന പത്രികാ മാതൃക	IV.	ഫണ്ടുകൾ എവിടെ നിന്ന് ലഭിക്കും

താഴെ തന്നിരിക്കുന്ന ഓപ്ഷനുകളിൽ നിന്നും ശരിയുത്തരം തിരഞ്ഞെടുക്കുക:

1. A-I, B-II, C-III, D-IV
2. A-II, B-IV, C-I, D-III
3. A-IV, B-III, C-II, D-I
4. A-III, B-II, C-I, D-IV

**Options :**

- 485584133925. 1
- 485584133926. 2
- 485584133927. 3
- 485584133928. 4

**Question Number : 68 Question Id : 48558433483 Question Type : MCQ Option Shuffling : No Is Question Mandatory : No Calculator : None Response Time : N.A Think Time : N.A Minimum Instruction Time : 0 Correct Marks : 5 Wrong Marks : 1**

**Question Key Details :**

Key	Value
Comprehension	MCQ

A good advertising catches the eye or ear of the audience. The correct order of remaining stages is:

- A. Interest
- B. Action
- C. Attention
- D. Desire

Choose the correct answer from the options given below:

1. A, B, C only
2. A, D, B only
3. B, D only
4. D, A, B only

**Options :**

- 485584133929. 1
- 485584133930. 2
- 485584133931. 3
- 485584133932. 4

Question Number : 68 Question Id : 48558433483 Question Type : MCQ Option Shuffling : No Is Question Mandatory : No Calculator : None Response Time : N.A Think Time : N.A Minimum Instruction Time : 0

Correct Marks : 5 Wrong Marks : 1

Question Key Details :

Key	Value
Comprehension	MCQ

പ്രകൃതിയുടെ കണ്ണിനെയും കാതിനെയും വിസ്മയിപ്പിക്കുന്നവയായിരിക്കും ഒരു നല്ല പരസ്യം. മറ്റു ഘട്ടങ്ങളുടെ ക്രമം ഏത്?

- A. താല്പര്യം
- B. പ്രവർത്തനം
- C. ശ്രദ്ധ
- D. അഭിലാഷം

താഴെ തന്നിരിക്കുന്ന ഓപ്ഷനുകളിൽ നിന്നും ശരിയുത്തരം തിരഞ്ഞെടുക്കുക:

- 1. A, B, C മാത്രം
- 2. A, D, B മാത്രം
- 3. B, D മാത്രം
- 4. D, A, B മാത്രം

Options :

- 485584133929. 1
- 485584133930. 2
- 485584133931. 3
- 485584133932. 4

Question Number : 69 Question Id : 48558433484 Question Type : MCQ Option Shuffling : No Is Question Mandatory : No Calculator : None Response Time : N.A Think Time : N.A Minimum Instruction Time : 0

Correct Marks : 5 Wrong Marks : 1

Question Key Details :

Key	Value
Comprehension	MCQ

' A Patent' :

- 1. Gives the creator of original work exclusive rights
- 2. Grants an inventor the right to exclude others from using or selling an invention
- 3. A recognizable sign, design or expression
- 4. Protects the visual design of objects that are not purely utilitarian

Options :

- 485584133933. 1
- 485584133934. 2
- 485584133935. 3
- 485584133936. 4



Question Number : 69 Question Id : 48558433484 Question Type : MCQ Option Shuffling : No Is Question Mandatory : No Calculator : None Response Time : N.A Think Time : N.A Minimum Instruction Time : 0

Correct Marks : 5 Wrong Marks : 1

Question Key Details :

Key	Value
Comprehension	MCQ

ഒരു 'നിർമ്മാണ അവകാശം' എന്നാൽ:

1. അതിന്റെ ആദ്യ നിർമ്മാതാവിന് പൂർണ്ണ അവകാശം നൽകുന്നു
2. മറ്റുള്ളവരെ ഉൽപന്നം ഉപയോഗിക്കുന്നതിൽ നിന്നും വിൽക്കുന്നതിൽ നിന്നും വിലക്കാൻ കണ്ടുപിടുത്തക്കാരന് അവകാശം നൽകുന്നു.
3. ഇതിന് തിരിച്ചറിയാൻ കഴിയുന്ന അടയാളമോ രൂപകൽപനയോ മുദ്രാവാക്യങ്ങളോ ഉണ്ടാകും
4. ഉപയോഗത്തിനു വേണ്ടി മാത്രമല്ലാത്ത വസ്തുക്കളുടെ കാണാൻ കഴിയുന്ന രൂപരേഖയെ സംരക്ഷിക്കുന്നു

Options :

- 485584133933. 1
- 485584133934. 2
- 485584133935. 3
- 485584133936. 4

Question Number : 70 Question Id : 48558433485 Question Type : MCQ Option Shuffling : No Is Question Mandatory : No Calculator : None Response Time : N.A Think Time : N.A Minimum Instruction Time : 0

Correct Marks : 5 Wrong Marks : 1

Question Key Details :

Key	Value
Comprehension	MCQ

Match List I with List II

LIST I		LIST II	
A.	Product	I.	Method to spread the word about the product or service
B.	Price	II.	Item actually being sold
C.	Place	III.	Value put on a product
D.	Promotion	IV.	Path along which goods move from producers to consumers

Choose the correct answer from the options given below:

1. A-IV, B-II, C-I, D-III
2. A-III, B-II, C-IV, D-I
3. A-II, B-I, C-IV, D-III
4. A-II, B-III, C-IV, D-I

Options :

- 485584133937. 1

485584133938. 2  
 485584133939. 3  
 485584133940. 4

**Question Number : 70 Question Id : 48558433485 Question Type : MCQ Option Shuffling : No Is Question Mandatory : No Calculator : None Response Time : N.A Think Time : N.A Minimum Instruction Time : 0**

**Correct Marks : 5 Wrong Marks : 1**

**Question Key Details :**

Key	Value
Comprehension	MCQ

പട്ടിക I, പട്ടിക II എന്നിവ ചേരുംപടി ചേർക്കുക

പട്ടിക I		പട്ടിക II	
A. ഉൽപന്നം	I.	ഉൽപന്നം/സേവനത്തെക്കുറിച്ച് പുറംലോകത്തെ അറിയിക്കാനുള്ള സംവിധാനം	
B. വില	II.	വിറ്റഴിക്കുന്ന വസ്തുക്കൾ	
C. സ്ഥലം	III.	ഉൽപന്നങ്ങളുടെ മൂല്യം	
D. പ്രോത്സാഹനം	IV.	ഉൽപാദകരിൽ നിന്നും ഉപഭോക്താക്കളിലേക്ക് ഉൽപന്നങ്ങൾ എത്തിക്കുന്ന വഴി	

താഴെ തന്നിരിക്കുന്ന ഓപ്ഷനുകളിൽ നിന്നും ശരിയുത്തരം തിരഞ്ഞെടുക്കുക:

1. A-IV, B-II, C-I, D-III
2. A-III, B-II, C-IV, D-I
3. A-II, B-I, C-IV, D-III
4. A-II, B-III, C-IV, D-I

**Options :**

485584133937. 1  
 485584133938. 2  
 485584133939. 3  
 485584133940. 4

**Question Number : 71 Question Id : 48558433486 Question Type : MCQ Option Shuffling : No Is Question Mandatory : No Calculator : None Response Time : N.A Think Time : N.A Minimum Instruction Time : 0**

**Correct Marks : 5 Wrong Marks : 1**

**Question Key Details :**

Key	Value
Comprehension	MCQ

Identify the correct statements

- A. A logo is used as a short path for advertising.
- B. A logo anchors company's brand.
- C. A logo is only used by individuals.
- D. A logo has to be completely graphic.
- E. A logo is also called logotype.

Choose the correct answer from the options given below:

- 1. A, B only
- 2. A, B, E only
- 3. A, E only
- 4. C, E only

Options :

- 485584133941. 1
- 485584133942. 2
- 485584133943. 3
- 485584133944. 4

Question Number : 71 Question Id : 48558433486 Question Type : MCQ Option Shuffling : No Is Question Mandatory : No Calculator : None Response Time : N.A Think Time : N.A Minimum Instruction Time : 0

Correct Marks : 5 Wrong Marks : 1

Question Key Details :

Key	Value
Comprehension	MCQ

ശരിയായ വാക്യങ്ങൾ മാത്രം തിരഞ്ഞെടുക്കുക

- A. ഒരു ലോഗോ പരസ്യങ്ങൾക്കുള്ള ഒരു കുറുക്കുവഴിയായി ഉപയോഗിക്കുന്നു.
- B. ഒരു കമ്പനിയുടെ ബ്രാൻഡിനെ ഉദ്ദേശിക്കുന്ന ഒന്നാണ് ലോഗോ.
- C. വ്യക്തികൾ മാത്രമാണ് ഒരു ലോഗോ ഉപയോഗിക്കുന്നത്.
- D. ഒരു ലോഗോ പൂർണ്ണമായും ചിത്ര രൂപത്തിൽ ആയിരിക്കണം.
- E. ഒരു ലോഗോയെ 'ലോഗോടൈപ്പ്' എന്നും വിശേഷിപ്പിക്കുന്നു.

താഴെ തന്നിരിക്കുന്ന ഓപ്ഷനുകളിൽ നിന്നും ശരിയുത്തരം തിരഞ്ഞെടുക്കുക:

- 1. A, B മാത്രം
- 2. A, B, E മാത്രം
- 3. A, E മാത്രം
- 4. C, E മാത്രം

Options :

- 485584133941. 1
- 485584133942. 2
- 485584133943. 3
- 485584133944. 4

Question Number : 72 Question Id : 48558433487 Question Type : MCQ Option Shuffling : No Is Question Mandatory : No Calculator : None Response Time : N.A Think Time : N.A Minimum Instruction Time : 0  
 Correct Marks : 5 Wrong Marks : 1  
 Question Key Details :

Key	Value
Comprehension	MCQ

When, with the merger of two companies, the combined value of the entity is more than the sum total of their individual company value, it is called as \_\_\_\_\_;

1. Competency
2. Value addition
3. Synergy
4. Conglomerate

**Options :**

- 485584133945. 1
- 485584133946. 2
- 485584133947. 3
- 485584133948. 4

Question Number : 72 Question Id : 48558433487 Question Type : MCQ Option Shuffling : No Is Question Mandatory : No Calculator : None Response Time : N.A Think Time : N.A Minimum Instruction Time : 0  
 Correct Marks : 5 Wrong Marks : 1  
 Question Key Details :

Key	Value
Comprehension	MCQ

രണ്ട് കമ്പനികൾ സംയോജിക്കുമ്പോൾ, രണ്ട് സ്ഥാപനങ്ങളുടെയും സംയുക്തമായുള്ള മൂല്യം, അവയുടെ രണ്ടിന്റെയും വ്യക്തിഗത മൂല്യത്തേക്കാൾ കൂടുതലായിരിക്കും. ഇതിന് \_\_\_\_\_ എന്ന് പറയുന്നു.

1. കോമ്പീറ്റൻസി
2. വാല്യു അഡീഷൻ
3. സിനർജി
4. കോൺഗ്ലോമറേറ്റ്

**Options :**

- 485584133945. 1
- 485584133946. 2
- 485584133947. 3
- 485584133948. 4

Question Number : 73 Question Id : 48558433488 Question Type : MCQ Option Shuffling : No Is Question Mandatory : No Calculator : None Response Time : N.A Think Time : N.A Minimum Instruction Time : 0  
 Correct Marks : 5 Wrong Marks : 1  
 Question Key Details :

Key	Value
Comprehension	MCQ

"Rohan took an agency of MRF tyres & opened a shop at Lajpat Nagar market".

Which type of franchising is discussed in the above paragraph?

1. Manufacturing franchise opportunity
2. Product franchise business opportunity
3. Business franchise opportunity venture
4. Business format franchise opportunity

**Options :**

- 485584133949. 1
- 485584133950. 2
- 485584133951. 3
- 485584133952. 4

**Question Number : 73 Question Id : 48558433488 Question Type : MCQ Option Shuffling : No Is Question Mandatory : No Calculator : None Response Time : N.A Think Time : N.A Minimum Instruction Time : 0**

**Correct Marks : 5 Wrong Marks : 1**

**Question Key Details :**

Key	Value
Comprehension	MCQ

'MRF' ടയറുകളുടെ ഒരു ഏജൻസി രോഹൻ എടുക്കുകയും 'ലജ്പത് നഗർ' മാർക്കറ്റിൽ ഒരു ഷോപ്പ് ആരംഭിക്കുകയും ചെയ്തു. ഇവിടെ പ്രതിപാദിക്കുന്നത് ഏതു തരം ഫ്രാഞ്ചൈസി ആണ്.

1. നിർമ്മാണ ഫ്രാഞ്ചൈസി അവസരം
2. ഉല്പന്ന ഫ്രാഞ്ചൈസി ബിസിനസ് അവസരം
3. ബിസിനസ് ഫ്രാഞ്ചൈസി അവസര സ്ഥാപനം
4. ബിസിനസ് മാതൃകാ ഫ്രാഞ്ചൈസി അവസരം

**Options :**

- 485584133949. 1
- 485584133950. 2
- 485584133951. 3
- 485584133952. 4

**Question Number : 74 Question Id : 48558433489 Question Type : MCQ Option Shuffling : No Is Question Mandatory : No Calculator : None Response Time : N.A Think Time : N.A Minimum Instruction Time : 0**

**Correct Marks : 5 Wrong Marks : 1**

**Question Key Details :**

Key	Value
Comprehension	MCQ

Which of the following is NOT the advantage of franchising from the point of view of franchisee?

1. Product Acceptance
2. Knowledge of the market
3. Quick Expansion
4. Management expertise

**Options :**

- 485584133953. 1
- 485584133954. 2
- 485584133955. 3
- 485584133956. 4

**Question Number : 74 Question Id : 48558433489 Question Type : MCQ Option Shuffling : No Is Question Mandatory : No Calculator : None Response Time : N.A Think Time : N.A Minimum Instruction Time : 0**

**Correct Marks : 5 Wrong Marks : 1**

**Question Key Details :**

Key	Value
Comprehension	MCQ

ഫ്രാഞ്ചൈസി എടുക്കുന്ന ആളുടെ ചിന്താഗതിയിൽ, ഫ്രാഞ്ചൈസിങ്ങിന്റെ മേന്മകളിൽ ഉൾപ്പെടാത്തത് ഏത്?

1. ഉൽപ്പന്ന സ്വീകാര്യത
2. വിപണിയെക്കുറിച്ചുള്ള അറിവ്
3. വേഗത്തിലുള്ള വിപുലീകരണം
4. മാനേജ്മെന്റ് വൈദഗ്ദ്ധ്യം

**Options :**

- 485584133953. 1
- 485584133954. 2
- 485584133955. 3
- 485584133956. 4

**Question Number : 75 Question Id : 48558433490 Question Type : MCQ Option Shuffling : No Is Question Mandatory : No Calculator : None Response Time : N.A Think Time : N.A Minimum Instruction Time : 0**

**Correct Marks : 5 Wrong Marks : 1**

**Question Key Details :**

Key	Value
Comprehension	MCQ

A merger between the two soft drink manufacturing company in Jaipur is an example of :

1. Conglomerate
2. Market extension mergers
3. Product extension mergers
4. Horizontal merger

**Options :**

485584133957. 1  
485584133958. 2  
485584133959. 3  
485584133960. 4

**Question Number : 75 Question Id : 48558433490 Question Type : MCQ Option Shuffling : No Is Question Mandatory : No Calculator : None Response Time : N.A Think Time : N.A Minimum Instruction Time : 0**

**Correct Marks : 5 Wrong Marks : 1**

**Question Key Details :**

Key	Value
Comprehension	MCQ

ജയ്കൂരിലുള്ള രണ്ടു ശീതള പാനീയ കമ്പനികൾ തമ്മിൽ ലയിക്കുന്നത് എന്തിന് ഉദാഹരണമാണ്?

1. കോൺഗ്ലോമറേറ്റ്
2. വിപണി വിപുലീകരണ ലയനം
3. ഉൽപ്പന്ന വിപുലീകരണ ലയനം
4. തിരശ്ചീനമായ ലയനം

**Options :**

485584133957. 1  
485584133958. 2  
485584133959. 3  
485584133960. 4

**Question Number : 76 Question Id : 48558433491 Question Type : MCQ Option Shuffling : No Is Question Mandatory : No Calculator : None Response Time : N.A Think Time : N.A Minimum Instruction Time : 0**

**Correct Marks : 5 Wrong Marks : 1**

**Question Key Details :**

Key	Value
Comprehension	MCQ

Costs involved with receipt of goods, inspection of goods is known as \_\_\_\_\_.

1. Purchased cost of inventory
2. Ordering cost
3. Holding cost
4. EOQ (Economic Order Quantity)

**Options :**

- 485584133961. 1
- 485584133962. 2
- 485584133963. 3
- 485584133964. 4

**Question Number : 76 Question Id : 48558433491 Question Type : MCQ Option Shuffling : No Is Question Mandatory : No Calculator : None Response Time : N.A Think Time : N.A Minimum Instruction Time : 0**

**Correct Marks : 5 Wrong Marks : 1**

**Question Key Details :**

Key	Value
Comprehension	MCQ

ചരക്കുകൾ സ്വീകരിക്കുന്നതിനും അവ പരിശോധിക്കുന്നതിനും ഉണ്ടാകുന്ന ചെലവുകൾ \_\_\_\_\_ എന്നാണ് അറിയപ്പെടുന്നത്.

1. ചരക്കുകളുടെ വാങ്ങൽ വില
2. ഓർഡർ ചെലവുകൾ
3. കൈവശ ചെലവുകൾ
4. ഇക്കണോമിക് ഓർഡർ ക്വാണ്ടിറ്റി (EOQ)

**Options :**

- 485584133961. 1
- 485584133962. 2
- 485584133963. 3
- 485584133964. 4

**Question Number : 77 Question Id : 48558433492 Question Type : MCQ Option Shuffling : No Is Question Mandatory : No Calculator : None Response Time : N.A Think Time : N.A Minimum Instruction Time : 0**

**Correct Marks : 5 Wrong Marks : 1**

**Question Key Details :**

Key	Value
Comprehension	MCQ



Money needed to fund the normal day to day operations of a business is:

1. Working Capital
2. Shareholders funds
3. Depreciation
4. Interest

**Options :**

- 485584133965. 1
- 485584133966. 2
- 485584133967. 3
- 485584133968. 4

**Question Number : 77 Question Id : 48558433492 Question Type : MCQ Option Shuffling : No Is Question Mandatory : No Calculator : None Response Time : N.A Think Time : N.A Minimum Instruction Time : 0**

**Correct Marks : 5 Wrong Marks : 1**

**Question Key Details :**

Key	Value
Comprehension	MCQ

ബിസിനസിന്റെ ദൈനംദിന പ്രവർത്തനങ്ങൾക്ക് ആവശ്യമായ പണം ഏത് പേരിൽ അറിയപ്പെടുന്നു ?

1. പ്രവർത്തന മൂലധനം
2. ഓഹരിയുടമകളുടെ ഫണ്ട്
3. തേയ്മാനം (മൂല്യക്ഷയം)
4. പലിശ

**Options :**

- 485584133965. 1
- 485584133966. 2
- 485584133967. 3
- 485584133968. 4

**Question Number : 78 Question Id : 48558433493 Question Type : MCQ Option Shuffling : No Is Question Mandatory : No Calculator : None Response Time : N.A Think Time : N.A Minimum Instruction Time : 0**

**Correct Marks : 5 Wrong Marks : 1**

**Question Key Details :**

Key	Value
Comprehension	MCQ

Net working capital can be calculated using:

- A. Current assets
- B. Non-current assets
- C. Current Liabilities
- D. Non-current Liabilities
- E. Shareholder's funds

Choose the correct answer from the options given below:

- 1. A and D only
- 2. A and B only
- 3. A and C only
- 4. D and E only

**Options :**

- 485584133969. 1
- 485584133970. 2
- 485584133971. 3
- 485584133972. 4

**Question Number : 78 Question Id : 48558433493 Question Type : MCQ Option Shuffling : No Is Question Mandatory : No Calculator : None Response Time : N.A Think Time : N.A Minimum Instruction Time : 0**

**Correct Marks : 5 Wrong Marks : 1**

**Question Key Details :**

Key	Value
Comprehension	MCQ

അറ്റപ്രവർത്തന മൂലധനം കണ്ടുപിടിക്കാൻ ഉപയോഗിക്കുന്നത് ഏതെല്ലാം?

- A. ഹ്രസ്വകാല ആസ്തികൾ
- B. ദീർഘകാല ആസ്തികൾ
- C. ഹ്രസ്വകാല ബാധ്യതകൾ
- D. ദീർഘകാല ബാധ്യതകൾ
- E. ഓഹരി ഉടമകളുടെ ഫണ്ട്

താഴെ തന്നിരിക്കുന്ന ഓപ്ഷനുകളിൽ നിന്നും ശരിയുത്തരം തിരഞ്ഞെടുക്കുക:

- 1. A, D മാത്രം
- 2. A, B മാത്രം
- 3. A, C മാത്രം
- 4. D, E മാത്രം

**Options :**

- 485584133969. 1
- 485584133970. 2
- 485584133971. 3
- 485584133972. 4

Question Number : 79 Question Id : 48558433494 Question Type : MCQ Option Shuffling : No Is Question Mandatory : No Calculator : None Response Time : N.A Think Time : N.A Minimum Instruction Time : 0  
 Correct Marks : 5 Wrong Marks : 1  
 Question Key Details :

Key	Value
Comprehension	MCQ

Calculate ROI (Return on Investment); where you spend ₹2,00,000/- to open a restaurant and make a profit of ₹40,000/- in one year

1. 10%
2. 20%
3. 50%
4. 25%

Options :

- 485584133973. 1
- 485584133974. 2
- 485584133975. 3
- 485584133976. 4

Question Number : 79 Question Id : 48558433494 Question Type : MCQ Option Shuffling : No Is Question Mandatory : No Calculator : None Response Time : N.A Think Time : N.A Minimum Instruction Time : 0  
 Correct Marks : 5 Wrong Marks : 1  
 Question Key Details :

Key	Value
Comprehension	MCQ

ഒരു റെസ്റ്റോറന്റ് ആരംഭിക്കുന്നത് ₹2,00,000/- ചെലവഴിക്കുകയും അതിൽ നിന്ന് ഒരു വർഷം ₹40,000/- ലാഭം ഉണ്ടാക്കുകയും ചെയ്യുന്നുവെങ്കിൽ, നിക്ഷേപത്തിൽ നിന്നുള്ള പ്രതിഫലം (ROI) കണ്ടുപിടിക്കുക.

1. 10%
2. 20%
3. 50%
4. 25%

Options :

- 485584133973. 1
- 485584133974. 2
- 485584133975. 3
- 485584133976. 4

Question Number : 80 Question Id : 48558433495 Question Type : MCQ Option Shuffling : No Is Question Mandatory : No Calculator : None Response Time : N.A Think Time : N.A Minimum Instruction Time : 0  
 Correct Marks : 5 Wrong Marks : 1  
 Question Key Details :

Key	Value
-----	-------

Effective Inventory Control System aims at

- A. Providing stock as and when the need arises
- B. Procuring stock at minimum possible price
- C. Minimizing cost
- D. Minimizing investment in inventory
- E. Minimizing Control

Choose the correct answer from the options given below:

- 1. A and D only
- 2. B and D only
- 3. A and B only
- 4. D and E only

**Options :**

- 485584133977. 1
- 485584133978. 2
- 485584133979. 3
- 485584133980. 4

**Question Number : 80 Question Id : 48558433495 Question Type : MCQ Option Shuffling : No Is Question Mandatory : No Calculator : None Response Time : N.A Think Time : N.A Minimum Instruction Time : 0**

**Correct Marks : 5 Wrong Marks : 1**

**Question Key Details :**

Key	Value
Comprehension	MCQ

കാര്യക്ഷമമായ 'നീക്കിയിരിപ്പ്' ചരക്ക് നിയന്ത്രണ സമ്പ്രദായം ലക്ഷ്യമാക്കുന്നത് ഏതെല്ലാം ?

- A. ആവശ്യമുള്ളപ്പോൾ ചരക്കുകളുടെ ലഭ്യത ഉറപ്പാക്കുക
- B. ഏറ്റവും കുറഞ്ഞ വിലയ്ക്ക് ചരക്കുകൾ ലഭ്യമാക്കുക
- C. ചെലവുകൾ കുറയ്ക്കുക
- D. ചരക്കുകളിൽ ഉള്ള നിക്ഷേപം കുറയ്ക്കുക
- E. നിയന്ത്രണങ്ങൾ കുറയ്ക്കുക

താഴെ തന്നിരിക്കുന്ന ഓപ്ഷനുകളിൽ നിന്നും ശരിയുത്തരം തിരഞ്ഞെടുക്കുക:

- 1. A, D മാത്രം
- 2. B, D മാത്രം
- 3. A, B മാത്രം
- 4. D, E മാത്രം

**Options :**

- 485584133977. 1

485584133978. 2  
485584133979. 3  
485584133980. 4

**Question Number : 81 Question Id : 48558433496 Question Type : MCQ Option Shuffling : No Is Question Mandatory : No Calculator : None Response Time : N.A Think Time : N.A Minimum Instruction Time : 0**

**Correct Marks : 5 Wrong Marks : 1**

**Question Key Details :**

Key	Value
Comprehension	MCQ

A seller sells 30000 units of a product per year, demand is uniform. Purchase cost is Rs. 6/- per product. Holding cost per annum is 20% of purchase cost. Ordering cost is Rs.500/- per order. What would be the Economic Order Quantity?

1. 5000 units
2. 5500 units
3. 5200 units
4. 4800 units

**Options :**

485584133981. 1  
485584133982. 2  
485584133983. 3  
485584133984. 4

**Question Number : 81 Question Id : 48558433496 Question Type : MCQ Option Shuffling : No Is Question Mandatory : No Calculator : None Response Time : N.A Think Time : N.A Minimum Instruction Time : 0**

**Correct Marks : 5 Wrong Marks : 1**

**Question Key Details :**

Key	Value
Comprehension	MCQ

ഒരു കച്ചവടക്കാരൻ പ്രതിവർഷം 30000 യൂണിറ്റ് സാധനങ്ങൾ വിൽക്കുന്നു. ഉൽപ്പന്നങ്ങളുടെ ചോദനത്തിൽ മാറ്റമുണ്ടാകുന്നില്ല. ഉൽപ്പന്നത്തിന്റെ വാങ്ങൽ വില യൂണിറ്റിന് 6 രൂപയാണ്. സൂക്ഷിച്ച് ചെലവ് പ്രതിവർഷം വാങ്ങൽ വിലയുടെ 20% ആണ്. ഒരു ഓർഡറിന് 500 രൂപയാണ് ഓർഡറിംഗ് ചെലവ്. ഈ ഉൽപ്പന്നത്തിന്റെ ഇക്കണോമിക് ഓർഡർ ക്വാണ്ടിറ്റി (EOQ) കണ്ടുപിടിക്കുക.

1. 5000 യൂണിറ്റുകൾ
2. 5500 യൂണിറ്റുകൾ
3. 5200 യൂണിറ്റുകൾ
4. 4800 യൂണിറ്റുകൾ

**Options :**

485584133981. 1  
485584133982. 2  
485584133983. 3

**Question Number : 82 Question Id : 48558433497 Question Type : MCQ Option Shuffling : No Is Question Mandatory : No Calculator : None Response Time : N.A Think Time : N.A Minimum Instruction Time : 0**

**Correct Marks : 5 Wrong Marks : 1**

**Question Key Details :**

Key	Value
Comprehension	MCQ

Sandeep, Mohit, Rajat and Rakesh are businessmen producing different products. It takes Sandeep 4 months, Mohit 3 months, Rajat 7 months and Rakesh 1 month, to purchase inventory and to sell the finished product in the market to get cash. Who will require maximum working capital?

1. Sandeep
2. Mohit
3. Rajat
4. Rakesh

**Options :**

485584133985. 1  
485584133986. 2  
485584133987. 3  
485584133988. 4

**Question Number : 82 Question Id : 48558433497 Question Type : MCQ Option Shuffling : No Is Question Mandatory : No Calculator : None Response Time : N.A Think Time : N.A Minimum Instruction Time : 0**

**Correct Marks : 5 Wrong Marks : 1**

**Question Key Details :**

Key	Value
Comprehension	MCQ

സന്ദീപ്, മോഹിത്, രജത്ത്, രാകേഷ് എന്നിവർ വിവിധ ഉൽപ്പന്നങ്ങൾ നിർമ്മിക്കുന്ന ബിസിനസുകാരാണ്. അസംസ്കൃത വസ്തുക്കൾ വാങ്ങി ഉൽപ്പാദനശേഷം ഉൽപ്പന്നങ്ങൾ വിൽപന നടത്തി പണം ലഭിക്കുന്നതിന് സന്ദീപിന് 4 മാസവും, മോഹിത്തിന് 3 മാസവും, രാജത്തിന് 7 മാസവും, രാകേഷിന് 1 മാസവും ആവശ്യമാണ്. ഇതിൽ ആർക്കാണ് ഏറ്റവും കൂടുതൽ പ്രവർത്തന മൂലധനം ആവശ്യമുള്ളത്?

1. സന്ദീപ്
2. മോഹിത്
3. രജത്ത്
4. രാകേഷ്

**Options :**

485584133985. 1  
485584133986. 2  
485584133987. 3  
485584133988. 4

**Question Number : 83 Question Id : 48558433498 Question Type : MCQ Option Shuffling : No Is Question Mandatory : No Calculator : None Response Time : N.A Think Time : N.A Minimum Instruction Time : 0 Correct Marks : 5 Wrong Marks : 1 Question Key Details :**

Key	Value
Comprehension	MCQ

The role of transferring financial resources from the surplus units to deficit units is referred to as :

1. Rights Issue
2. Angel Investors
3. Capital Markets
4. Financial intermediation

**Options :**

- 485584133989. 1
- 485584133990. 2
- 485584133991. 3
- 485584133992. 4

**Question Number : 83 Question Id : 48558433498 Question Type : MCQ Option Shuffling : No Is Question Mandatory : No Calculator : None Response Time : N.A Think Time : N.A Minimum Instruction Time : 0 Correct Marks : 5 Wrong Marks : 1 Question Key Details :**

Key	Value
Comprehension	MCQ

ധനകാര്യ വിഭവങ്ങൾ മിച്ച യൂണിറ്റുകളിൽ (നിക്ഷേപകർ) നിന്നും കമ്മി യൂണിറ്റുകളിലേക്ക് (ബ്രിസിനസുകാർ) മാറ്റുന്നതിനുള്ള പങ്ക് വഹിക്കുന്നതിന് പറയുന്ന പേര്:

1. അവകാശ ഓഹരികൾ ഇറക്കൽ
2. എയ്ഞ്ചൽ നിക്ഷേപകർ
3. മൂലധന വിപണി
4. ധനകാര്യ മധ്യവർത്തിത്വം

**Options :**

- 485584133989. 1
- 485584133990. 2
- 485584133991. 3
- 485584133992. 4

**Question Number : 84 Question Id : 48558433499 Question Type : MCQ Option Shuffling : No Is Question Mandatory : No Calculator : None Response Time : N.A Think Time : N.A Minimum Instruction Time : 0 Correct Marks : 5 Wrong Marks : 1 Question Key Details :**

Key	Value
-----	-------

Comprehension	MCQ
---------------	-----

The 'new issues' may be issued by old companies and are called \_\_\_\_\_.

1. Public issue
2. Rights issue
3. Further issue
4. Initial issue

**Options :**

485584133993. 1  
 485584133994. 2  
 485584133995. 3  
 485584133996. 4

**Question Number : 84 Question Id : 48558433499 Question Type : MCQ Option Shuffling : No Is Question Mandatory : No Calculator : None Response Time : N.A Think Time : N.A Minimum Instruction Time : 0**

**Correct Marks : 5 Wrong Marks : 1**

**Question Key Details :**

Key	Value
Comprehension	MCQ

പഴയ കമ്പനികൾ 'പുതിയ ഓഹരി ഇറക്കൽ' നടത്തുന്നതിനെ \_\_\_\_\_ എന്ന് പറയുന്നു.

1. പൊതുജനങ്ങൾക്കുള്ള ഓഹരി ഇറക്കൽ
2. അവകാശ ഓഹരികൾ ഇറക്കൽ
3. അധിക ഓഹരികൾ ഇറക്കൽ
4. പ്രാരംഭ ഓഹരികൾ ഇറക്കൽ

**Options :**

485584133993. 1  
 485584133994. 2  
 485584133995. 3  
 485584133996. 4

**Question Number : 85 Question Id : 48558433500 Question Type : MCQ Option Shuffling : No Is Question Mandatory : No Calculator : None Response Time : N.A Think Time : N.A Minimum Instruction Time : 0**

**Correct Marks : 5 Wrong Marks : 1**

**Question Key Details :**

Key	Value
Comprehension	MCQ



Mahima started a venture where she could provide food from various restaurants to passengers travelling by train. She created an app for the same. She was guided all throughout by her friend & mentor Shalini, who was a successful entrepreneur herself. Shalini had a corpus of funds which she decided to transfer to Mahima for her venture. Mahima preferred to give Shalini a return on her investment. Identify the source of financing for Mahima.

1. Venture Capital
2. Angel Investor
3. Loan
4. Charity

**Options :**

- 485584133997. 1
- 485584133998. 2
- 485584133999. 3
- 485584134000. 4

**Question Number : 85 Question Id : 48558433500 Question Type : MCQ Option Shuffling : No Is Question Mandatory : No Calculator : None Response Time : N.A Think Time : N.A Minimum Instruction Time : 0**

**Correct Marks : 5 Wrong Marks : 1**

**Question Key Details :**

Key	Value
Comprehension	MCQ

ട്രെയിൻ യാത്രക്കാർക്ക് ആഹാരം എത്തിച്ചു കൊടുക്കുന്നതിനുള്ള ഒരു ബിസിനസ് സംരംഭം മഹിമ ആരംഭിച്ചു. ഇതിനായി ഒരു മൊബൈൽ ആപ്പ് അവൾ നിർമ്മിച്ചു. സുഹൃത്തായ ശാലിനി ആയിരുന്നു എല്ലാ കാര്യങ്ങളിലും അവളുടെ വഴികാട്ടി. ശാലിനി വിജയകരമായി ബിസിനസ് നടത്തുന്ന ഒരു സംരംഭക ആയിരുന്നു. ശാലിനിക്ക് മിച്ചമുള്ള തുക മഹിമയ്ക്ക് കൈമാറാൻ തീരുമാനിച്ചു. തനിക്കു ലഭിക്കുന്ന ലാഭത്തിന്റെ ഒരു പങ്ക് ശാലിനിക്ക് നൽകാനും മഹിമ തയ്യാറായി. മഹിമ ഇവിടെ പ്രയോജനപ്പെടുത്തിയ ധന സ്രോതസ്സ് ഏതാണ്?

1. വെഞ്ചർ മുലധനം
2. എയ്ഞ്ചൽ നിക്ഷേപകർ
3. വായ്പ
4. കാരൂണ്യ പ്രവർത്തി

**Options :**

- 485584133997. 1
- 485584133998. 2
- 485584133999. 3
- 485584134000. 4

**Question Number : 86 Question Id : 48558433501 Question Type : MCQ Option Shuffling : No Is Question Mandatory : No Calculator : None Response Time : N.A Think Time : N.A Minimum Instruction Time : 0**

**Correct Marks : 5 Wrong Marks : 1**

**Question Key Details :**

Key	Value
Comprehension	MCQ

\_\_\_\_\_ is a type of private equity capital provided as seed funding to early stage, high potential, high risk growth up companies/entrepreneurs.

1. Angel investor
2. Venture Capital
3. Working Capital
4. Fixed Capital

**Options :**

- 485584134001. 1
- 485584134002. 2
- 485584134003. 3
- 485584134004. 4

**Question Number : 86 Question Id : 48558433501 Question Type : MCQ Option Shuffling : No Is Question Mandatory : No Calculator : None Response Time : N.A Think Time : N.A Minimum Instruction Time : 0**

**Correct Marks : 5 Wrong Marks : 1**

**Question Key Details :**

Key	Value
Comprehension	MCQ

ഉയർന്ന വളർച്ചാ സാധ്യതയും കൂടിയ നഷ്ടസാധ്യതയും ഉള്ള കമ്പനികൾക്ക്/ സംരംഭകർക്ക് പ്രാരംഭ ഘട്ടത്തിൽ സീഡ് ഫണ്ടുകൾ ആയി സ്വകാര്യ ഇക്വിറ്റി മൂലധനം പ്രദാനം ചെയ്യുന്ന രീതി \_\_\_\_\_ ആണ്.

1. എയ്ഞ്ചൽ നിക്ഷേപകർ
2. വെഞ്ചർ മൂലധനം
3. പ്രവർത്തന മൂലധനം
4. സ്ഥിര മൂലധനം

**Options :**

- 485584134001. 1
- 485584134002. 2
- 485584134003. 3
- 485584134004. 4

**Question Number : 87 Question Id : 48558433502 Question Type : MCQ Option Shuffling : No Is Question Mandatory : No Calculator : None Response Time : N.A Think Time : N.A Minimum Instruction Time : 0**

**Correct Marks : 5 Wrong Marks : 1**

**Question Key Details :**

Key	Value
Comprehension	MCQ

Match List I with List II

LIST I		LIST II	
Types of Issues		Characteristics	
A.	Public issue	I.	Inexpensive & no brokerage
B.	Rights issue	II.	Stock options to motivate employees
C.	Private placement	III.	Issue of prospects
D.	Offer to employees	IV.	UTI, LIC, GICI, SLFC

Choose the correct answer from the options given below:

1. A-IV, B-III, C-II, D-I
2. A-III, B-I, C-IV, D-II
3. A-II, B-IV, C-I, D-III
4. A-I, B-III, C-II, D-IV

Options :

- 485584134005. 1
- 485584134006. 2
- 485584134007. 3
- 485584134008. 4

Question Number : 87 Question Id : 48558433502 Question Type : MCQ Option Shuffling : No Is Question Mandatory : No Calculator : None Response Time : N.A Think Time : N.A Minimum Instruction Time : 0

Correct Marks : 5 Wrong Marks : 1

Question Key Details :

Key	Value
Comprehension	MCQ

പട്ടിക I, പട്ടിക II എന്നിവ ചേരുംപടി ചേർക്കുക

പട്ടിക I		പട്ടിക II	
ഓഹരിയിറക്കൽ രീതികൾ		പ്രത്യേകതകൾ	
A.	പൊതുവായ ഓഹരിയിറക്കൽ	I.	ചെലവ് കുറഞ്ഞതും ബ്രോക്കറേജ് ഇല്ലാത്തതും
B.	അവകാശ ഓഹരിയിറക്കൽ	II.	ജീവനക്കാരെ പ്രചോദിപ്പിക്കുന്നതിനുള്ള ഓഹരി ഇറക്കൽ
C.	സ്വകാര്യമായി ഓഹരി നൽകൽ	III.	പ്രൊസ്പെക്ടുകൾ ഇറക്കൽ
D.	ജീവനക്കാർക്ക് ഓഹരി നൽകൽ	IV.	UTI, LIC, GICI, SLFC

താഴെ തന്നിരിക്കുന്ന ഓപ്ഷനുകളിൽ നിന്നും ശരിയുത്തരം തിരഞ്ഞെടുക്കുക:

1. A-IV, B-III, C-II, D-I
2. A-III, B-I, C-IV, D-II
3. A-II, B-IV, C-I, D-III
4. A-I, B-III, C-II, D-IV

**Options :**

- 485584134005. 1
- 485584134006. 2
- 485584134007. 3
- 485584134008. 4

**Question Number : 88 Question Id : 48558433503 Question Type : MCQ Option Shuffling : No Is Question Mandatory : No Calculator : None Response Time : N.A Think Time : N.A Minimum Instruction Time : 0**

**Correct Marks : 5 Wrong Marks : 1**

**Question Key Details :**

Key	Value
Comprehension	MCQ

Venture capitalist look for an exit from the business in the time frame of typically 3-7 years. Identify the way venture capitalist (VC) exit within the time frame from the business where they are investing?

1. VC's have a continuous involvement in the business so they do not exit.
2. VC's disinvest the holdings either to the promoters or in the market
3. VC's invest in the early stage and exit in the pre-public stage by disinvesting their holdings to the promoters
4. VC's exit after selling the shares in the market

**Options :**

- 485584134009. 1
- 485584134010. 2
- 485584134011. 3
- 485584134012. 4

**Question Number : 88 Question Id : 48558433503 Question Type : MCQ Option Shuffling : No Is Question Mandatory : No Calculator : None Response Time : N.A Think Time : N.A Minimum Instruction Time : 0**

**Correct Marks : 5 Wrong Marks : 1**

**Question Key Details :**

Key	Value
Comprehension	MCQ

മൂന്നു മുതൽ ഏഴു വർഷത്തിനുള്ളിൽ ബിസിനസ് അവസാനിപ്പിക്കാൻ വെഞ്ചർ ക്യാപ്പിറ്റലിസ്റ്റ് ആഗ്രഹിക്കുന്നു. അവർ നിക്ഷേപം നടത്തിയിട്ടുള്ള ബിസിനസിൽ നിന്നും ഒഴിവാകാനുള്ള മാർഗം എന്താണ്?

1. വെഞ്ചർ ക്യാപ്പിറ്റലിസ്റ്റിന് ബിസിനസിൽ തുടർച്ചയായ ഇടപെടൽ ആവശ്യമുള്ളതു കൊണ്ട്, ഒഴിവാക്കാൻ സാധിക്കില്ല.
2. പ്രൊമോട്ടർമാർക്കോ പൊതു വിപണിയിലോ ഓഹരികൾ വിറ്റഴിക്കാൻ വെഞ്ചർ ക്യാപ്പിറ്റലിസ്റ്റിന് സാധിക്കും.
3. പ്രാരംഭ ഘട്ടത്തിൽ വെഞ്ചർ ക്യാപ്പിറ്റലിസ്റ്റിന് മുതൽ മുടക്ക് നടത്തി, പൊതുജനങ്ങൾക്ക് ഓഹരികൾ നൽകുന്നതിന് മുന്നോടിയായി, പ്രൊമോട്ടർമാർക്ക് ഓഹരികൾ നൽകി ഒഴിവാക്കാൻ സാധിക്കും
4. വെഞ്ചർ ക്യാപ്പിറ്റലിസ്റ്റിന് പൊതു വിപണിയിൽ ഓഹരികൾ വിറ്റഴിച്ച് ഒഴിവാക്കാൻ സാധിക്കും.

**Options :**

- 485584134009. 1
- 485584134010. 2
- 485584134011. 3
- 485584134012. 4

**Question Number : 89 Question Id : 48558433504 Question Type : MCQ Option Shuffling : No Is Question Mandatory : No Calculator : None Response Time : N.A Think Time : N.A Minimum Instruction Time : 0 Correct Marks : 5 Wrong Marks : 1**

**Question Key Details :**

Key	Value
Comprehension	MCQ

Identify the role played by Amit in the process of Financial Intermediation, if he has money which he does not want to spend

1. Financial Intermediary
2. Surplus Unit
3. Deficit Unit
4. Lender

**Options :**

- 485584134013. 1
- 485584134014. 2
- 485584134015. 3
- 485584134016. 4

**Question Number : 89 Question Id : 48558433504 Question Type : MCQ Option Shuffling : No Is Question Mandatory : No Calculator : None Response Time : N.A Think Time : N.A Minimum Instruction Time : 0 Correct Marks : 5 Wrong Marks : 1**

**Question Key Details :**

Key	Value
-----	-------

Comprehension	MCQ
---------------	-----

ചെലവഴിക്കാൻ ആഗ്രഹിക്കാത്ത പണം കൈവശമുള്ള അമിത് ഒരു ധനകാര്യ മധ്യവർത്തി എന്ന നിലയിൽ ഏത് സ്ഥാനമാണ് വഹിക്കുന്നതെന്ന് കണ്ടെത്തുക.

1. ധനകാര്യ ഇടനിലക്കാരൻ
2. മിച്ചമുള്ള യൂണിറ്റ്
3. കമ്മിയുള്ള യൂണിറ്റ്
4. വായ്പ നൽകുന്നവൻ

**Options :**

- 485584134013. 1
- 485584134014. 2
- 485584134015. 3
- 485584134016. 4

**Question Number : 90 Question Id : 48558433505 Question Type : MCQ Option Shuffling : No Is Question Mandatory : No Calculator : None Response Time : N.A Think Time : N.A Minimum Instruction Time : 0**

**Correct Marks : 5 Wrong Marks : 1**

**Question Key Details :**

Key	Value
Comprehension	MCQ

Market facilitating to transfer resources from the savers to the entrepreneurs setting new enterprises is:

1. Primary market
2. Secondary market
3. Money Market
4. Debt Market

**Options :**

- 485584134017. 1
- 485584134018. 2
- 485584134019. 3
- 485584134020. 4

**Question Number : 90 Question Id : 48558433505 Question Type : MCQ Option Shuffling : No Is Question Mandatory : No Calculator : None Response Time : N.A Think Time : N.A Minimum Instruction Time : 0**

**Correct Marks : 5 Wrong Marks : 1**

**Question Key Details :**

Key	Value
Comprehension	MCQ

പുതിയ സംരംഭങ്ങൾ ആരംഭിക്കുന്നവർക്ക്, പണം മിച്ചമുള്ളവരിൽ നിന്നും ധനകാര്യ വിഭവങ്ങൾ കൈമാറ്റം ചെയ്യാൻ സഹായിക്കുന്ന വിപണി ഏത്?

1. പ്രാഥമിക വിപണി
2. ദ്വിതീയ വിപണി
3. പണ വിപണി
4. വായ്പാ വിപണി

**Options :**

- 485584134017. 1
- 485584134018. 2
- 485584134019. 3
- 485584134020. 4

**Sub-Section Number :** 2  
**Sub-Section Id :** 4855842423  
**Question Shuffling Allowed :** No  
**Is Section Default? :** null

**Question Number : 91 Question Id : 48558433506 Question Type : MCQ Option Shuffling : No Is Question Mandatory : No Calculator : None Response Time : N.A Think Time : N.A Minimum Instruction Time : 0**

**Correct Marks : 5 Wrong Marks : 1**

**Question Key Details :**

Key	Value
Comprehension	Compl

**Case Study (41-45):**

Vibha had created a unique all weather jackets which had solar panels embedded in it. The USP of the jacket was that, harnessing the solar energy it could keep the jacket warm like a heater and cold like an air conditioner depending on the weather. Her market was the youth who came out of the comfort of their homes to stay in hostels. The name of her product was 'TURN COAT' which was beautifully written in comic sans font outside her showroom in FLD Mall. The name had a rising sun next to it making it an attractive composition to look at. Vibha was reading a lot of literature on the promotion strategies that she could use. She had already fixed a public appearance by the superstar Ralia Kapoor at her showroom in 15 days. She opened up Instagram and Twitter accounts in the name of 'TURN COAT'. She got the name of the product and the symbol of the rising sun printed on the parking ticket, that were collected by customers coming to the mall. While deciding on the pricing she was suggested by her mentor to keep the price very high to recover her R & D costs spent on developing the product. She was a little hesitant to do so and decided to price TURN COAT by covering the cost of producing it plus with reasonable profits

The name of Vibha's product 'TURN COAT' written in Comic sans font and the rising sun next to the name is:

1. Brand Mark
2. Logo
3. Brand Name
4. Trade Mark

**Options :**

- 485584134021. 1
- 485584134022. 2
- 485584134023. 3
- 485584134024. 4

**Question Number : 91 Question Id : 48558433506 Question Type : MCQ Option Shuffling : No Is Question Mandatory : No Calculator : None Response Time : N.A Think Time : N.A Minimum Instruction Time : 0**

**Correct Marks : 5 Wrong Marks : 1**

**Question Key Details :**

Key	Value
Comprehension	Comp1

കേസ് സ്റ്റഡി (41-45):

സോളാർ പാനലുകൾ ഉൾപ്പെടുത്തി എല്ലാ കാലാവസ്ഥയിലും ഉപയോഗിക്കാൻ കഴിയുന്ന തനതായ ജാക്കറ്റുകൾ 'വിഭി' നിർമ്മിക്കുന്നു. ഈ ജാക്കറ്റിന്റെ തനത് പ്രത്യേകത (USP) എന്നത്, സൗര ഊർജ്ജം ഉപയോഗിച്ച് കാലാവസ്ഥയ്ക്ക് അനുസരിച്ച് ചൂട് നിലനിർത്തുകയോ, എയർ കണ്ടീഷണർ പോലെ തണുപ്പ് ഉണ്ടാക്കുകയോ ചെയ്യും എന്നുള്ളതാണ്. സ്വന്തം വീടുകളിൽ നിന്ന് അകന്ന് ഹോസ്റ്റലുകളിൽ താമസിക്കേണ്ടി വരുന്ന യുവജനങ്ങളെയാണ് ഈ ഉല്പന്നം ലക്ഷ്യം വയ്ക്കുന്നത്. ടേൺ കോട്ട് (TURN COAT) എന്ന അവളുടെ ഉല്പന്നത്തിന്റെ പേര് കാർട്ടൂൺ രൂപത്തിൽ 'FLD' മാളിൽ ഉള്ള ഷോറൂമിന് പുറത്ത് ഭംഗിയായി പ്രദർശിപ്പിച്ചിരുന്നു. കൂടുതൽ ആകർഷകമാക്കാൻ ഒരു ഉദയ സൂര്യന്റെ ചിത്രവും ഇതിൽ ഉൾപ്പെടുത്തിയിരുന്നു. വിൽപന പ്രോത്സാഹനത്തിന് തനിക്ക് ഉപയോഗിക്കാൻ കഴിയുന്ന തന്ത്രങ്ങളെ കുറിച്ച് അറിയാൻ ധാരാളം പുസ്തകങ്ങൾ വിഭി വായിച്ചു. സിനിമാ സൂപ്പർ സ്റ്റാർ ആയ റാലിയാ കപൂറിന്റെ ഷോറൂം സന്ദർശനവും 15 ദിവസത്തിനുള്ളിൽ നടത്താൻ തീരുമാനിച്ചിട്ടുണ്ട്. ഇൻസ്റ്റഗ്രാമിലും ട്വിറ്ററിലും 'ടേൺ കോട്ട്' എന്ന പേരിൽ അവൾ പുതിയ അക്കൗണ്ടുകൾ തുടങ്ങി. മാളിൽ സന്ദർശനം നടത്തുന്ന ഉപഭോക്താക്കൾക്ക് നൽകുന്ന പാർക്കിംഗ് ടിക്കറ്റുകളിൽ കമ്പനിയുടെ പേരും ഉദയ സൂര്യന്റെ ചിത്രവും ഉൾപ്പെടുത്തിയിരുന്നു. തന്റെ ഉപദേശകയായ സുഹൃത്ത്, ഉല്പന്നത്തിന് വളരെ ഉയരുന്ന വിലയാണ് നിർദ്ദേശിച്ചത്. അതിലൂടെ ഉല്പന്ന നിർമ്മാണ ഘട്ടത്തിലുണ്ടായ ഗവേഷണ ചെലവുകൾ വേഗത്തിൽ വീണ്ടെടുക്കാൻ കഴിയുമെന്ന ഉപദേശമാണ് കിട്ടിയത്. എന്നാൽ അതിന് താൽപര്യം ഇല്ലാത്തതിനാൽ, നിർമ്മാണ ചെലവിനൊപ്പം ന്യായമായ ഒരു ലാഭവും ഉൾപ്പെടുത്തിയാണ് അവൾ 'ടേൺ കോട്ട്' എന്ന തന്റെ ഉല്പന്നത്തിന് വിലയിട്ടത്.

വിഭിയുടെ ഉല്പന്നത്തിനുള്ള 'ടേൺ കോട്ട്' എന്ന പേരിന്, കാർട്ടൂൺ രൂപത്തിലുള്ള എഴുത്ത് ഉപയോഗിക്കുകയും ഉദയ സൂര്യന്റെ ചിത്രം ഉൾപ്പെടുത്തുകയും ചെയ്തത് എന്താണ്?

- 1. ബ്രാന്റഡ് മാർക്ക്
- 2. ലോഗോ
- 3. ബ്രാന്റഡ് പേര്
- 4. ട്രേഡ് മാർക്ക്

**Options :**

- 485584134021. 1
- 485584134022. 2
- 485584134023. 3
- 485584134024. 4

**Question Number : 92 Question Id : 48558433507 Question Type : MCQ Option Shuffling : No Is Question Mandatory : No Calculator : None Response Time : N.A Think Time : N.A Minimum Instruction Time : 0**

**Correct Marks : 5 Wrong Marks : 1**

**Question Key Details :**

Key	Value
Comprehension	Comp1



Case Study (41-45):

Vibha had created a unique all weather jackets which had solar panels embedded in it. The USP of the jacket was that, harnessing the solar energy it could keep the jacket warm like a heater and cold like an air conditioner depending on the weather. Her market was the youth who came out of the comfort of their homes to stay in hostels. The name of her product was 'TURN COAT' which was beautifully written in comic sans font outside her showroom in FLD Mall. The name had a rising sun next to it making it an attractive composition to look at. Vibha was reading a lot of literature on the promotion strategies that she could use. She had already fixed a public appearance by the superstar Ralia Kapoor at her showroom in 15 days. She opened up Instagram and Twitter accounts in the name of 'TURN COAT'. She got the name of the product and the symbol of the rising sun printed on the parking ticket, that were collected by customers coming to the mall. While deciding on the pricing she was suggested by her mentor to keep the price very high to recover her R & D costs spent on developing the product. She was a little hesitant to do so and decided to price TURN COAT by covering the cost of producing it plus with reasonable profits

The celebrity appearance of Ralia Kapoor at Vibha's showroom can be categorized as a part of:

- 1. Advertising
- 2. Public relations
- 3. Product placement
- 4. Sales promotion

Options :

- 485584134025. 1
- 485584134026. 2
- 485584134027. 3
- 485584134028. 4

Question Number : 92 Question Id : 48558433507 Question Type : MCQ Option Shuffling : No Is Question Mandatory : No Calculator : None Response Time : N.A Think Time : N.A Minimum Instruction Time : 0

Correct Marks : 5 Wrong Marks : 1

Question Key Details :

Key	Value
Comprehension	Comp1

കേസ് സ്റ്റഡി (41-45):

സോളാർ പാനലുകൾ ഉൾപ്പെടുത്തി എല്ലാ കാലാവസ്ഥയിലും ഉപയോഗിക്കാൻ കഴിയുന്ന തനതായ ജാക്കറ്റുകൾ 'വിഭ' നിർമ്മിക്കുന്നു. ഈ ജാക്കറ്റിന്റെ തനത് പ്രത്യേകത (USP) എന്നത്, സൗര ഊർജ്ജം ഉപയോഗിച്ച് കാലാവസ്ഥയ്ക്ക് അനുസരിച്ച് ചൂട് നിലനിർത്തുകയോ, എയർ കണ്ടീഷണർ പോലെ തണുപ്പ് ഉണ്ടാക്കുകയോ ചെയ്യും എന്നുള്ളതാണ്. സ്വന്തം വീടുകളിൽ നിന്ന് അകന്ന് ഹോസ്റ്റലുകളിൽ താമസിക്കേണ്ടി വരുന്ന യുവജനങ്ങളെയാണ് ഈ ഉല്പന്നം ലക്ഷ്യം വയ്ക്കുന്നത്. ടേൺ കോട്ട് (TURN COAT) എന്ന അവളുടെ ഉല്പന്നത്തിന്റെ പേര് കാർട്ടൂൺ രൂപത്തിൽ 'FLD' മാളിൽ ഉള്ള ഷോറൂമിന് പുറത്ത് ഭംഗിയായി പ്രദർശിപ്പിച്ചിരുന്നു. കൂടുതൽ ആകർഷകമാക്കാൻ ഒരു ഉദയ സൂര്യന്റെ ചിത്രവും ഇതിൽ ഉൾപ്പെടുത്തിയിരുന്നു. വിൽപന പ്രോത്സാഹനത്തിന് തനിക്ക് ഉപയോഗിക്കാൻ കഴിയുന്ന തന്ത്രങ്ങളെ കുറിച്ച് അറിയാൻ ധാരാളം പുസ്തകങ്ങൾ വിഭ വായിച്ചു. സിനിമാ സൂപ്പർ സ്റ്റാർ ആയ റാലിയാ കപൂറിന്റെ ഷോറൂം സന്ദർശനവും 15 ദിവസത്തിനുള്ളിൽ നടത്താൻ തീരുമാനിച്ചിട്ടുണ്ട്. ഇൻസ്റ്റഗ്രാമിലും ട്വിറ്ററിലും 'ടേൺ കോട്ട്' എന്ന പേരിൽ അവൾ പുതിയ അക്കൗണ്ടുകൾ തുടങ്ങി. മാളിൽ സന്ദർശനം നടത്തുന്ന ഉപഭോക്താക്കൾക്ക് നൽകുന്ന പാർക്കിംഗ് ടിക്കറ്റുകളിൽ കമ്പനിയുടെ പേരും ഉദയ സൂര്യന്റെ ചിത്രവും ഉൾപ്പെടുത്തിയിരുന്നു. തന്റെ ഉപദേശകയായ സുഹൃത്ത്, ഉല്പന്നത്തിന് വളരെ ഉയർന്ന വിലയാണ് നിർദ്ദേശിച്ചത്. അതിലൂടെ ഉല്പന്ന നിർമ്മാണ ഘട്ടത്തിലുണ്ടായ ഗവേഷണ ചെലവുകൾ വേഗത്തിൽ വീണ്ടെടുക്കാൻ കഴിയുമെന്ന ഉപദേശമാണ് കിട്ടിയത്. എന്നാൽ അതിന് താൽപര്യം ഇല്ലാത്തതിനാൽ, നിർമ്മാണ ചെലവിനൊപ്പം ന്യായമായ ഒരു ലാഭവും ഉൾപ്പെടുത്തിയാണ് അവൾ 'ടേൺ കോട്ട്' എന്ന തന്റെ ഉല്പന്നത്തിന് വിലയിട്ടത്.

സിനിമാ സൂപ്പർ സ്റ്റാർ ആയ നാലിയാ കപൂർ വിഭയുടെ ഷോറൂം സന്ദർശിക്കുന്നത് ഏതിൽ ഉൾപ്പെടുത്താം?

- 1. പരസ്യം
- 2. പൊതുജന സമ്പർക്കം
- 3. ഉല്പന്ന പ്രതിഷ്ഠ
- 4. വിൽപന പ്രോത്സാഹനം

**Options :**

- 485584134025. 1
- 485584134026. 2
- 485584134027. 3
- 485584134028. 4

**Question Number : 93 Question Id : 48558433508 Question Type : MCQ Option Shuffling : No Is Question Mandatory : No Calculator : None Response Time : N.A Think Time : N.A Minimum Instruction Time : 0**

**Correct Marks : 5 Wrong Marks : 1**

**Question Key Details :**

Key	Value
Comprehension	Comp1

**Case Study (41-45):**

Vibha had created a unique all weather jackets which had solar panels embedded in it. The USP of the jacket was that, harnessing the solar energy it could keep the jacket warm like a heater and cold like an air conditioner depending on the weather. Her market was the youth who came out of the comfort of their homes to stay in hostels. The name of her product was 'TURN COAT' which was beautifully written in comic sans font outside her showroom in FLD Mall. The name had a rising sun next to it making it an attractive composition to look at. Vibha was reading a lot of literature on the promotion strategies that she could use. She had already fixed a public appearance by the superstar Ralia Kapoor at her showroom in 15 days. She opened up Instagram and Twitter accounts in the name of 'TURN COAT'. She got the name of the product and the symbol of the rising sun printed on the parking ticket, that were collected by customers coming to the mall. While deciding on the pricing she was suggested by her mentor to keep the price very high to recover her R & D costs spent on developing the product. She was a little hesitant to do so and decided to price TURN COAT by covering the cost of producing it plus with reasonable profits

The pricing technique that was suggested to Vibha and the one that she finally used can be identified as-

- A. Variable pricing
- B. Penetration pricing
- C. Skimming pricing
- D. Fixed cost pricing
- E. Cost-plus pricing

Choose the correct answer from the options given below:

- 1. C & E only
- 2. A & B only
- 3. B & D only
- 4. C & D only

**Options :**

- 485584134029. 1
- 485584134030. 2
- 485584134031. 3
- 485584134032. 4

**Question Number : 93 Question Id : 48558433508 Question Type : MCQ Option Shuffling : No Is Question Mandatory : No Calculator : None Response Time : N.A Think Time : N.A Minimum Instruction Time : 0**

**Correct Marks : 5 Wrong Marks : 1**

**Question Key Details :**

Key	Value
Comprehension	Comp1

കേസ് സ്റ്റഡി (41-45):

സോളാർ പാനലുകൾ ഉൾപ്പെടുത്തി എല്ലാ കാലാവസ്ഥയിലും ഉപയോഗിക്കാൻ കഴിയുന്ന തനതായ ജാക്കറ്റുകൾ 'വിഭ' നിർമ്മിക്കുന്നു. ഈ ജാക്കറ്റിന്റെ തനതായ പ്രത്യേകത (USP) എന്നത്, സൗര ഊർജ്ജം ഉപയോഗിച്ച് കാലാവസ്ഥയ്ക്ക് അനുസരിച്ച് ചൂട് നിലനിർത്തുകയോ, എയർ കണ്ടീഷണർ പോലെ തണുപ്പ് ഉണ്ടാക്കുകയോ ചെയ്യും എന്നുള്ളതാണ്. സ്വന്തം വീടുകളിൽ നിന്ന് ആകെ ഹോസ്റ്റലുകളിൽ താമസിക്കേണ്ടി വരുന്ന യുവജനങ്ങളെയാണ് ഈ ഉല്പന്നം ലക്ഷ്യം വയ്ക്കുന്നത്. ടേൺ കോട്ട് (TURN COAT) എന്ന അവളുടെ ഉല്പന്നത്തിന്റെ പേര് കാർട്ടൂൺ രൂപത്തിൽ 'FLD' മാളിൽ ഉള്ള ഷോറൂമിന് പുറത്ത് ഭംഗിയായി പ്രദർശിപ്പിച്ചിരുന്നു. കൂടുതൽ ആകർഷകമാക്കാൻ ഒരു ഉദയ സൂര്യന്റെ ചിത്രവും ഇതിൽ ഉൾപ്പെടുത്തിയിരുന്നു. വിൽപന പ്രോത്സാഹനത്തിന് തനിക്ക് ഉപയോഗിക്കാൻ കഴിയുന്ന തന്ത്രങ്ങളെ കുറിച്ച് അറിയാൻ ധാരാളം പുസ്തകങ്ങൾ വിഭ വായിച്ചു. സിനിമാ സൂപ്പർ സ്റ്റാർ ആയ റാലിയാ കപൂറിന്റെ ഷോറൂം സന്ദർശനവും 15 ദിവസത്തിനുള്ളിൽ നടത്താൻ തീരുമാനിച്ചിട്ടുണ്ട്. ഇൻസ്റ്റഗ്രാമിലും ട്വിറ്ററിലും 'ടേൺ കോട്ട്' എന്ന പേരിൽ അവൾ പുതിയ അക്കൗണ്ടുകൾ തുടങ്ങി. മാളിൽ സന്ദർശനം നടത്തുന്ന ഉപഭോക്താക്കൾക്ക് നൽകുന്ന പാർക്കിംഗ് ടിക്കറ്റുകളിൽ കമ്പനിയുടെ പേരും ഉദയ സൂര്യന്റെ ചിത്രവും ഉൾപ്പെടുത്തിയിരുന്നു. തന്റെ ഉപദേശകയായ സുഹൃത്ത്, ഉല്പന്നത്തിന് വളരെ ഉയർന്ന വിലയാണ് നിർദ്ദേശിച്ചത്. അതിലൂടെ ഉല്പന്ന നിർമ്മാണ ഘട്ടത്തിലുണ്ടായ ഗവേഷണ ചെലവുകൾ വേഗത്തിൽ വീണ്ടെടുക്കാൻ കഴിയുമെന്ന ഉപദേശമാണ് കിട്ടിയത്. എന്നാൽ അതിന് താൽപര്യം ഇല്ലാത്തതിനാൽ, നിർമ്മാണ ചെലവിനൊപ്പം ന്യായമായ ഒരു ലാഭവും ഉൾപ്പെടുത്തിയാണ് അവൾ 'ടേൺ കോട്ട്' എന്ന തന്റെ ഉല്പന്നത്തിന് വിലയിട്ടത്.

വിഭയ്ക്ക് ഉപദേശം കിട്ടിയതും പിന്നീട് അവൾ ഉപയോഗിക്കുന്നതുമായ വിലനിർണയ രീതികൾ ഏതിൽ ഉൾപ്പെടുത്താം?

- A. വേരിയബിൾ വിലയിടൽ
- B. പെനട്രേഷൻ വിലയിടൽ
- C. സ്ക്വിമ്മിംഗ് വിലയിടൽ
- D. സ്ഥിര ചെലവ് വിലയിടൽ
- E. ചെലവ് പ്ലസ് വിലയിടൽ

താഴെ തന്നിരിക്കുന്ന ഓപ്ഷനുകളിൽ നിന്നും ശരിയുത്തരം തിരഞ്ഞെടുക്കുക:

- 1. C & E മാത്രം
- 2. A & B മാത്രം
- 3. B & D മാത്രം
- 4. C & D മാത്രം

**Options :**

- 485584134029. 1
- 485584134030. 2
- 485584134031. 3
- 485584134032. 4

**Question Number : 94 Question Id : 48558433509 Question Type : MCQ Option Shuffling : No Is Question Mandatory : No Calculator : None Response Time : N.A Think Time : N.A Minimum Instruction Time : 0**

**Correct Marks : 5 Wrong Marks : 1**

**Question Key Details :**

Key	Value
Comprehension	Compl

**Case Study (41-45):**

Vibha had created a unique all weather jackets which had solar panels embedded in it. The USP of the jacket was that, harnessing the solar energy it could keep the jacket warm like a heater and cold like an air conditioner depending on the weather. Her market was the youth who came out of the comfort of their homes to stay in hostels. The name of her product was 'TURN COAT' which was beautifully written in comic sans font outside her showroom in FLD Mall. The name had a rising sun next to it making it an attractive composition to look at. Vibha was reading a lot of literature on the promotion strategies that she could use. She had already fixed a public appearance by the superstar Ralia Kapoor at her showroom in 15 days. She opened up Instagram and Twitter accounts in the name of 'TURN COAT'. She got the name of the product and the symbol of the rising sun printed on the parking ticket, that were collected by customers coming to the mall. While deciding on the pricing she was suggested by her mentor to keep the price very high to recover her R & D costs spent on developing the product. She was a little hesitant to do so and decided to price TURN COAT by covering the cost of producing it plus with reasonable profits

The name of the product and the symbol printed on the parking tickets is an example of :

1. Above-the-line approach
2. Public Relations
3. Ambient (Media Mix )
4. Business Promotion (Sales promotion)

**Options :**

- 485584134033. 1
- 485584134034. 2
- 485584134035. 3
- 485584134036. 4

**Question Number : 94 Question Id : 48558433509 Question Type : MCQ Option Shuffling : No Is Question Mandatory : No Calculator : None Response Time : N.A Think Time : N.A Minimum Instruction Time : 0**

**Correct Marks : 5 Wrong Marks : 1**

**Question Key Details :**

Key	Value
Comprehension	Comp1

കേസ് സ്റ്റഡി (41-45):

സോളാർ പാനലുകൾ ഉൾപ്പെടുത്തി എല്ലാ കാലാവസ്ഥയിലും ഉപയോഗിക്കാൻ കഴിയുന്ന തനതായ ജാക്കറ്റുകൾ 'വിഭ' നിർമ്മിക്കുന്നു. ഈ ജാക്കറ്റിന്റെ തനതായ പ്രത്യേകത (USP) എന്നത്, സൗര ഊർജ്ജം ഉപയോഗിച്ച് കാലാവസ്ഥയ്ക്ക് അനുസരിച്ച് ചൂട് നിലനിർത്തുകയോ, എയർ കണ്ടീഷണർ പോലെ തണുപ്പ് ഉണ്ടാക്കുകയോ ചെയ്യും എന്നുള്ളതാണ്. സ്വന്തം വീടുകളിൽ നിന്ന് അകന്ന് ഹോസ്റ്റലുകളിൽ താമസിക്കേണ്ടി വരുന്ന യുവജനങ്ങളെയാണ് ഈ ഉല്പന്നം ലക്ഷ്യം വയ്ക്കുന്നത്. ടേൺ കോട്ട് (TURN COAT) എന്ന അവളുടെ ഉല്പന്നത്തിന്റെ പേര് കാർട്ടൂൺ രൂപത്തിൽ 'FLD' മാളിൽ ഉള്ള ഷോറൂമിന് പുറത്ത് ഭംഗിയായി പ്രദർശിപ്പിച്ചിരുന്നു. കൂടുതൽ ആകർഷകമാക്കാൻ ഒരു ഉദയ സൂര്യന്റെ ചിത്രവും ഇതിൽ ഉൾപ്പെടുത്തിയിരുന്നു. വിൽപന പ്രോത്സാഹനത്തിന് തനിക്ക് ഉപയോഗിക്കാൻ കഴിയുന്ന തന്ത്രങ്ങളെ കുറിച്ച് അറിയാൻ ധാരാളം പുസ്തകങ്ങൾ വിഭ വായിച്ചു. സിനിമാ സൂപ്പർ സ്റ്റാർ ആയ റാലിയാ കപൂറിന്റെ ഷോറൂം സന്ദർശനവും 15 ദിവസത്തിനുള്ളിൽ നടത്താൻ തീരുമാനിച്ചിട്ടുണ്ട്. ഇൻസ്റ്റഗ്രാമിലും ട്വിറ്ററിലും 'ടേൺ കോട്ട്' എന്ന പേരിൽ അവൾ പുതിയ അക്കൗണ്ടുകൾ തുടങ്ങി. മാളിൽ സന്ദർശനം നടത്തുന്ന ഉപഭോക്താക്കൾക്ക് നൽകുന്ന പാർക്കിംഗ് ടിക്കറ്റുകളിൽ കമ്പനിയുടെ പേരും ഉദയ സൂര്യന്റെ ചിത്രവും ഉൾപ്പെടുത്തിയിരുന്നു. തന്റെ ഉപദേശകയായ സുഹൃത്ത്, ഉല്പന്നത്തിന് വളരെ ഉയർന്ന വിലയാണ് നിർദ്ദേശിച്ചത്. അതിലൂടെ ഉല്പന്ന നിർമ്മാണ ഘട്ടത്തിലുണ്ടായ ഗവേഷണ ചെലവുകൾ വേഗത്തിൽ വീണ്ടെടുക്കാൻ കഴിയുമെന്ന ഉപദേശമാണ് കിട്ടിയത്. എന്നാൽ അതിന് താൽപര്യം ഇല്ലാത്തതിനാൽ, നിർമ്മാണ ചെലവിനൊപ്പം ന്യായമായ ഒരു ലാഭവും ഉൾപ്പെടുത്തിയാണ് അവൾ 'ടേൺ കോട്ട്' എന്ന തന്റെ ഉല്പന്നത്തിന് വിലയിട്ടത്.

പാർക്കിംഗ് ടിക്കറ്റുകളിൽ ഉൽപന്നത്തിന്റെ പേരും ചിത്രവും ഉൾപ്പെടുത്തിയത് ഏതിന് ഉദാഹരണമാണ്?

1. ലൈനിന് മുകളിലൂടെയുള്ള സമീപനം
2. പൊതുജന സമ്പർക്കം
3. അംബിയെന്റ് (മീഡിയാ മിക്സ്)
4. ബിസിനസ് പ്രോത്സാഹനം (വിൽപന പ്രോത്സാഹനം)

**Options :**

- 485584134033. 1
- 485584134034. 2
- 485584134035. 3

**Question Number : 95 Question Id : 48558433510 Question Type : MCQ Option Shuffling : No Is Question Mandatory : No Calculator : None Response Time : N.A Think Time : N.A Minimum Instruction Time : 0**

**Correct Marks : 5 Wrong Marks : 1**

**Question Key Details :**

Key	Value
Comprehension	Comp1

Case Study (41-45):

Vibha had created a unique all weather jackets which had solar panels embedded in it. The USP of the jacket was that, harnessing the solar energy it could keep the jacket warm like a heater and cold like an air conditioner depending on the weather. Her market was the youth who came out of the comfort of their homes to stay in hostels. The name of her product was 'TURN COAT' which was beautifully written in comic sans font outside her showroom in FLD Mall. The name had a rising sun next to it making it an attractive composition to look at. Vibha was reading a lot of literature on the promotion strategies that she could use. She had already fixed a public appearance by the superstar Ralia Kapoor at her showroom in 15 days. She opened up Instagram and Twitter accounts in the name of 'TURN COAT'. She got the name of the product and the symbol of the rising sun printed on the parking ticket, that were collected by customers coming to the mall. While deciding on the pricing she was suggested by her mentor to keep the price very high to recover her R & D costs spent on developing the product. She was a little hesitant to do so and decided to price TURN COAT by covering the cost of producing it plus with reasonable profits

Promoting her product on instagram and twitter accounts would fall under:

1. Above the line approach
2. Below the line approach
3. Through the line approach
4. Indirect sales strategy approach

**Options :**

- 485584134037. 1
- 485584134038. 2
- 485584134039. 3
- 485584134040. 4

**Question Number : 95 Question Id : 48558433510 Question Type : MCQ Option Shuffling : No Is Question Mandatory : No Calculator : None Response Time : N.A Think Time : N.A Minimum Instruction Time : 0**

**Correct Marks : 5 Wrong Marks : 1**

**Question Key Details :**

Key	Value
Comprehension	Comp1

കേസ് നമ്പർ (41-45):

സോളാർ പാനലുകൾ ഉൾപ്പെടുത്തി എല്ലാ കാലാവസ്ഥയിലും ഉപയോഗിക്കാൻ കഴിയുന്ന തനതായ ജാക്കറ്റുകൾ 'വിഭ' നിർമ്മിക്കുന്നു. ഈ ജാക്കറ്റിന്റെ തനത് പ്രത്യേകത (USP) എന്നത്, സൗര ഊർജ്ജം ഉപയോഗിച്ച് കാലാവസ്ഥയ്ക്ക് അനുസരിച്ച് ചൂട് നിലനിർത്തുകയോ, എയർ കണ്ടീഷണർ പോലെ തണുപ്പ് ഉണ്ടാക്കുകയോ ചെയ്യും എന്നുള്ളതാണ്. സ്വന്തം വീടുകളിൽ നിന്ന് അകന്ന് ഹോസ്റ്റലുകളിൽ താമസിക്കേണ്ടി വരുന്ന യുവജനങ്ങളെയാണ് ഈ ഉല്പന്നം ലക്ഷ്യം വയ്ക്കുന്നത്. ടേൺ കോട്ട് (TURN COAT) എന്ന അവളുടെ ഉല്പന്നത്തിന്റെ പേര് കാർട്ടൂൺ രൂപത്തിൽ 'FLD' മാളിൽ ഉള്ള ഷോറൂമിന് പുറത്ത് ഭംഗിയായി പ്രദർശിപ്പിച്ചിരുന്നു. കൂടുതൽ ആകർഷകമാക്കാൻ ഒരു ഉദയ സൂര്യന്റെ ചിത്രവും ഇതിൽ ഉൾപ്പെടുത്തിയിരുന്നു. വിൽപന പ്രോത്സാഹനത്തിന് തനിക്ക് ഉപയോഗിക്കാൻ കഴിയുന്ന തന്ത്രങ്ങളെ കുറിച്ച് അറിയാൻ ധാരാളം പുസ്തകങ്ങൾ വിഭ വായിച്ചു. സിനിമാ സൂപ്പർ സ്റ്റാർ ആയ റാലിയാ കപൂറിന്റെ ഷോറൂം സന്ദർശനവും 15 ദിവസത്തിനുള്ളിൽ നടത്താൻ തീരുമാനിച്ചിട്ടുണ്ട്. ഇൻസ്റ്റാഗ്രാമിലും ട്വിറ്ററിലും 'ടേൺ കോട്ട്' എന്ന പേരിൽ അവൾ പുതിയ അക്കൗണ്ടുകൾ തുടങ്ങി. മാളിൽ സന്ദർശനം നടത്തുന്ന ഉപഭോക്താക്കൾക്ക് നൽകുന്ന പാർക്കിംഗ് ടിക്കറ്റുകളിൽ കമ്പനിയുടെ പേരും ഉദയ സൂര്യന്റെ ചിത്രവും ഉൾപ്പെടുത്തിയിരുന്നു. തന്റെ ഉപദേശകയായ സുഹൃത്ത്, ഉല്പന്നത്തിന് വളരെ ഉയർന്ന വിലയാണ് നിർദ്ദേശിച്ചത്. അതിലൂടെ ഉല്പന്ന നിർമ്മാണ ഘട്ടത്തിലുണ്ടായ ഗവേഷണ ചെലവുകൾ വേഗത്തിൽ വീണ്ടെടുക്കാൻ കഴിയുമെന്ന ഉപദേശമാണ് കിട്ടിയത്. എന്നാൽ അതിന് താൽപര്യം ഇല്ലാത്തതിനാൽ, നിർമ്മാണ ചെലവിനൊപ്പം ന്യായമായ ഒരു ലാഭവും ഉൾപ്പെടുത്തിയാണ് അവൾ 'ടേൺ കോട്ട്' എന്ന തന്റെ ഉല്പന്നത്തിന് വിലയിട്ടത്.

ഇൻസ്റ്റാഗ്രാമിലും ട്വിറ്ററിലും ഉത്പന്നങ്ങളുടെ പ്രോത്സാഹനം നടത്തുന്നത് ഏത് വിഭാഗത്തിൽ ഉൾപ്പെടുന്നു?

1. ലൈനിന് മുകളിലുള്ള സമീപനം
2. ലൈനിന് താഴെയുള്ള സമീപനം
3. ലൈനിലൂടെയുള്ള സമീപനം
4. പരോക്ഷമായ വിൽപന തന്ത്രങ്ങളുടെ സമീപനം

**Options :**

- 485584134037. 1
- 485584134038. 2
- 485584134039. 3
- 485584134040. 4

**Sub-Section Number :** 3  
**Sub-Section Id :** 4855842424  
**Question Shuffling Allowed :** No  
**Is Section Default? :** null

**Question Number : 96 Question Id : 48558433511 Question Type : MCQ Option Shuffling : No Is Question Mandatory : No Calculator : None Response Time : N.A Think Time : N.A Minimum Instruction Time : 0**

**Correct Marks : 5 Wrong Marks : 1**

**Question Key Details :**

Key	Value
Comprehension	Comp2

Mergers: Read the case and answer the questions (46-50)

Gaurav owned an event management company called 'Lotus Ltd.' in Mumbai. He used to organise weddings, meetings, conferences, etc. These events were full of activities, music, food and entertainment. He used to outsource decoration material, food as well as entertainment from different vendors.

Ms. Geetika was an owner of catering and decoration company called Miles Ltd. in Mumbai. She used to cater the food and decoration needs of various customers such as corporate as well as family functions.

Gaurav & Geetika were performing well in their respective businesses until covid-19 lockdown was introduced. Due to lack of demand for food, decoration and events, both the companies started facing losses. As the lockdown was lifted, nearly after a year, both Gaurav and Geetika were facing problems in managing their increasing operational costs with lesser number of customers. As they were planning to look for better business opportunity, they got to meet each other at an 'exponential' organised by trades of Mumbai at BKC ground.

In this 'exponential', there were different traders sharing their business ideas with each other. Hence, it was here that Gaurav and Geetika decided to restart their business by merging their operations with a new company name. 'G<sup>2</sup> Lotus Miles Ltd'. They both shared their contacts of vendors and customers with each other and started getting order for events, food, decoration, entertainment, etc. Their business started blooming as their costs were lesser and more customers with demand of services given by Gaurav and Geetika.

Now its been two years that both of them have grown their business into other cities of Maharashtra like, Pune, Ahmednagar and Nagpur under the company name of 'G<sup>2</sup> Lotus Miles Ltd'. The company is growing with increased annual sales of 30%.

Which of the following is applicable in case of "G<sup>2</sup> Lotus Miles ltd"?

1. Product extension merger
2. Market extension merger
3. Vertical merger
4. Horizontal merger

**Options :**

- 485584134041. 1
- 485584134042. 2
- 485584134043. 3
- 485584134044. 4

**Question Number : 96 Question Id : 48558433511 Question Type : MCQ Option Shuffling : No Is Question Mandatory : No Calculator : None Response Time : N.A Think Time : N.A Minimum Instruction Time : 0**

**Correct Marks : 5 Wrong Marks : 1**

**Question Key Details :**

Key	Value
Comprehension	Comp2



ലയനങ്ങൾ: കേസ് വായിച്ച്, ചോദ്യങ്ങൾക്ക് ഉത്തരം എഴുതുക (46-50)

'ലോട്ടസ് ലിമിറ്റഡ്' എന്ന പേരിൽ മുംബൈയിൽ ഒരു ഇന്റർനേഷണൽ കമ്പനി നടത്തുകയാണ് ഗൗരവ്. വിവിധ വിഭാഗങ്ങൾ, മീറ്റിംഗുകൾ, കോൺഫ്രൻസുകൾ എന്നിവയെല്ലാം ഇയാൾ സംഘടിപ്പിക്കാറുണ്ട്. വിവിധ കലാപരിപാടികൾ, വിനോദ പ്രവർത്തനങ്ങൾ, ഭക്ഷണം എന്നിവയെല്ലാം ഇതിനായി മറ്റു സ്ഥാപനങ്ങൾക്ക് പുറം കരാർ കൊടുക്കാറാണ് പതിവ്.

മുംബൈയിൽ മൈൽസ് ലിമിറ്റഡ് എന്ന പേരിലുള്ള ഡെക്കറേഷൻ-കേറ്ററിംഗ് കമ്പനിയുടെ ഉടമയാണ് ഗീതിക. വിവിധ കമ്പനി-കുടുംബ ഉപഭോക്താക്കൾ പരിപാടികൾക്ക് ആവശ്യമായ ഭക്ഷണവും അലങ്കാരങ്ങളും ചെയ്യുകൊടുക്കുന്നത് കമ്പനിയാണ് ഇത്.

കൊവിഡ്-19-നെ തുടർന്നുള്ള ലോക്ക്ഡൗൺ വരെ ഗൗരവിന്റെയും ഗീതികയുടെയും ബിസിനസ് നല്ല നിലയിലായിരുന്നു പ്രവർത്തിച്ചിരുന്നത്. എന്നാൽ കൊവിഡ് കാലത്ത് പരിപാടികൾക്കുള്ള ഭക്ഷണ-അലങ്കാരങ്ങൾക്കുള്ള ആവശ്യക്കാർ കുറഞ്ഞതിനാൽ രണ്ടു പേരുടെയും ബിസിനസ് നഷ്ടത്തിലായി. ഒരു വർഷം കഴിഞ്ഞ് ലോക്ക്ഡൗൺ പിൻവലിച്ചപ്പോൾ ഓർഡറുകൾ കുറഞ്ഞതിനാൽ പ്രവർത്തന ചെലവ് വളരെ വർദ്ധിച്ചു. പുതിയ അവസരങ്ങളെ കുറിച്ച് ചിന്തിക്കുന്ന സമയത്താണ് മുംബൈ 'BKC' മൈതാനത്തു വച്ചു നടന്ന ബിസിനസ് സംഗമത്തിൽ വച്ച് അവർ കണ്ടുമുട്ടുന്നത്.

ഈ സംഗമത്തിൽ വച്ച് പല ബിസിനസുകാരും പല പുതിയ ആശയങ്ങളും പങ്കുവെച്ചു. ഇതേ തുടർന്ന് തങ്ങളുടെ ബിസിനസുകൾ ലയിപ്പിച്ചു കൊണ്ട് 'ട്രിലോട്ടസ് മൈൽസ് ലിമിറ്റഡ്' എന്ന പേരിൽ ഒരു കമ്പനി തുടങ്ങാൻ തീരുമാനിച്ചു. അവരുടെ രണ്ടു പേരുടെയും വിതരണക്കാരുടെയും ഉപഭോക്താക്കളുടെയും വിശദാംശങ്ങൾ പരസ്പരം കൈമാറുകയും അതിലൂടെ വിവിധ പരിപാടികളുടെ ഭക്ഷണം, അലങ്കാരം, വിനോദ കാര്യങ്ങൾ എന്നിവയ്ക്കുള്ള ഓർഡറുകൾ ലഭിക്കാനും തുടങ്ങി. കൂടുതൽ ഉപഭോക്താക്കൾക്ക് സേവനം വ്യാപിക്കുന്നതിലൂടെ ചെലവുകൾ കുറയ്ക്കാനും ബിസിനസ് അഭിവൃദ്ധിപ്പെടാനും തുടങ്ങി.

രണ്ട് വർഷങ്ങൾക്കു ശേഷം ഇന്ന് ഇവരുടെ ബിസിനസ് മഹാരാഷ്ട്രയിലെ മറ്റു പട്ടണങ്ങളായ പൂനെ, അഹമ്മദാബാദ്, നാഗ്പൂർ എന്നിവിടങ്ങളിലേക്കും 'ട്രിലോട്ടസ് മൈൽസ് ലിമിറ്റഡ്' എന്ന പേരിൽ തന്നെ വളർന്നു. 30% വാർഷിക വിൽപന വർദ്ധനവോടു കൂടി ഈ കമ്പനി വളർന്നു കൊണ്ടിരിക്കുകയാണ്.

താഴെ നൽകിയിട്ടുള്ളവയിൽ 'ട്രിലോട്ടസ് മൈൽസ് ലിമിറ്റഡിന്' ബാധകമായിട്ടുള്ളത് ഏത്?

- 1. ഉല്പന്ന വിപുലീകരണ ലയനം
- 2. വിപണി വിപുലീകരണ ലയനം
- 3. ലംബമായ ലയനം
- 4. തിരശ്ചീനമായ ലയനം

**Options :**

- 485584134041. 1
- 485584134042. 2
- 485584134043. 3
- 485584134044. 4

**Question Number : 97 Question Id : 48558433512 Question Type : MCQ Option Shuffling : No Is Question Mandatory : No Calculator : None Response Time : N.A Think Time : N.A Minimum Instruction Time : 0**

**Correct Marks : 5 Wrong Marks : 1**

**Question Key Details :**

Key	Value
Comprehension	Comp2

Mergers: Read the case and answer the questions (46-50)

Gaurav owned an event management company called 'Lotus Ltd.' in Mumbai. He used to organise weddings, meetings, conferences, etc. These events were full of activities, music, food and entertainment. He used to outsource decoration material, food as well as entertainment from different vendors.

Ms. Geetika was an owner of catering and decoration company called Miles Ltd. in Mumbai. She used to cater the food and decoration needs of various customers such as corporate as well as family functions.

Gaurav & Geetika were performing well in their respective businesses until covid-19 lockdown was introduced. Due to lack of demand for food, decoration and events, both the companies started facing losses. As the lockdown was lifted, nearly after a year, both Gaurav and Geetika were facing problems in managing their increasing operational costs with lesser number of customers. As they were planning to look for better business opportunity, they got to meet each other at an 'exponential' organised by trades of Mumbai at BKC ground.

In this 'exponential', there were different traders sharing their business ideas with each other. Hence, it was here that Gaurav and Geetika decided to restart their business by merging their operations with a new company name. 'G<sup>2</sup> Lotus Miles Ltd'. They both shared their contacts of vendors and customers with each other and started getting order for events, food, decoration, entertainment, etc. Their business started blooming as their costs were lesser and more customers with demand of services given by Gaurav and Geetika.

Now its been two years that both of them have grown their business into other cities of Maharashtra like, Pune, Ahmednagar and Nagpur under the company name of 'G<sup>2</sup> Lotus Miles Ltd'. The company is growing with increased annual sales of 30%.

The new company so formed "G<sup>2</sup> Lotus Miles Ltd" is an example of:

1. Acquisition
2. Franchising
3. Amalgamation
4. Absorption

**Options :**

- 485584134045. 1
- 485584134046. 2
- 485584134047. 3
- 485584134048. 4

**Question Number : 97 Question Id : 48558433512 Question Type : MCQ Option Shuffling : No Is Question Mandatory : No Calculator : None Response Time : N.A Think Time : N.A Minimum Instruction Time : 0**

**Correct Marks : 5 Wrong Marks : 1**

**Question Key Details :**

Key	Value
Comprehension	Comp2

ലയനങ്ങൾ: കേസ് വായിച്ച്, ചോദ്യങ്ങൾക്ക് ഉത്തരം എഴുതുക (46-50)

'ലോട്ടസ് ലിമിറ്റഡ്' എന്ന പേരിൽ മുംബൈയിൽ ഒരു ഇവന്റ് മാനേജ്മെന്റ് കമ്പനി നടത്തുകയാണ് ഗൗരവ്. വിവാഹങ്ങൾ, മീറ്റിംഗുകൾ, കോൺഫ്രൻസുകൾ എന്നിവയെല്ലാം ഇയാൾ സംഘടിപ്പിക്കാറുണ്ട്. വിവിധ കലാപരിപാടികൾ, വിനോദ പ്രവർത്തനങ്ങൾ, ഭക്ഷണം എന്നിവയെല്ലാം ഇതിനായി മറ്റു സ്ഥാപനങ്ങൾക്ക് പുറം കരാർ കൊടുക്കാറാണ് പതിവ്.

മുംബൈയിൽ മൈൽസ് ലിമിറ്റഡ് എന്ന പേരിലുള്ള ഡെക്കറേഷൻ-കേറ്ററിംഗ് കമ്പനിയുടെ ഉടമയാണ് ഗീതിക. വിവിധ കമ്പനി-കുടുംബ ഉപഭോക്താക്കൾ പരിപാടികൾക്ക് ആവശ്യമായ ഭക്ഷണവും അലങ്കാരങ്ങളും ചെയ്യുകൊടുക്കുന്നത് കമ്പനിയാണ് ഇത്.

കൊവിഡ്-19-നെ തുടർന്നുള്ള ലോക്ക്ഡൗൺ വരെ ഗൗരവിന്റെയും ഗീതികയുടെയും ബിസിനസ് നല്ല നിലയിലായിരുന്നു പ്രവർത്തിച്ചിരുന്നത്. എന്നാൽ കൊവിഡ് കാലത്ത് പരിപാടികൾക്കുള്ള ഭക്ഷണ-അലങ്കാരങ്ങൾക്കുള്ള ആവശ്യക്കാർ കുറഞ്ഞതിനാൽ രണ്ടു പേരുടെയും ബിസിനസ് നഷ്ടത്തിലായി. ഒരു വർഷം കഴിഞ്ഞ് ലോക്ക്ഡൗൺ പിൻവലിച്ചപ്പോൾ ഓർഡറുകൾ കുറഞ്ഞതിനാൽ പ്രവർത്തന ചെലവ് വളരെ വർദ്ധിച്ചു. പുതിയ അവസരങ്ങളെ കുറിച്ച് ചിന്തിക്കുന്ന സമയത്താണ് മുംബൈ 'BKC' മൈതാനത്തു വച്ചു നടന്ന ബിസിനസ് സംഗമത്തിൽ വച്ച് അവർ കണ്ടുമുട്ടുന്നത്.

ഈ സംഗമത്തിൽ വച്ച് പല ബിസിനസുകാരും പല പുതിയ ആശയങ്ങളും പങ്കുവെച്ചു. ഇതേ തുടർന്ന് തങ്ങളുടെ ബിസിനസുകൾ ലയിപ്പിച്ചു കൊണ്ട് 'ട്രീലോട്ടസ് മൈൽസ് ലിമിറ്റഡ്' എന്ന പേരിൽ ഒരു കമ്പനി തുടങ്ങാൻ തീരുമാനിച്ചു. അവരുടെ രണ്ടു പേരുടെയും വിതരണക്കാരുടെയും ഉപഭോക്താക്കളുടെയും വിശദാംശങ്ങൾ പരസ്പരം കൈമാറുകയും അതിലൂടെ വിവിധ പരിപാടികളുടെ ഭക്ഷണം, അലങ്കാരം, വിനോദ കാര്യങ്ങൾ എന്നിവയ്ക്കുള്ള ഓർഡറുകൾ ലഭിക്കാനും തുടങ്ങി. കൂടുതൽ ഉപഭോക്താക്കൾക്ക് സേവനം വ്യാപിക്കുന്നതിലൂടെ ചെലവുകൾ കുറയ്ക്കാനും ബിസിനസ് അഭിവൃദ്ധിപ്പെടാനും തുടങ്ങി.

രണ്ട് വർഷങ്ങൾക്കു ശേഷം ഇന്ന് ഇവരുടെ ബിസിനസ് മഹാരാഷ്ട്രയിലെ മറ്റു പട്ടണങ്ങളായ പൂനെ, അഹമ്മദാബദ്, നാഗ്പൂർ എന്നിവിടങ്ങളിലേക്കും 'ട്രീലോട്ടസ് മൈൽസ് ലിമിറ്റഡ്' എന്ന പേരിൽ തന്നെ വളർന്നു. 30% വാർഷിക വിൽപന വർദ്ധനവോടു കൂടി ഈ കമ്പനി വളർന്നു കൊണ്ടിരിക്കുകയാണ്.

പുതുതായി രൂപീകരിച്ച 'ട്രീലോട്ടസ് മൈൽസ് ലിമിറ്റഡ്' ഏതിന് ഉദാഹരണമാണ്?

1. അക്വിസിഷൻ
2. ഫ്രാഞ്ചൈസിങ്ങ്
3. അമാൽഗമേഷൻ
4. അബ്സോർപ്ഷൻ

**Options :**

- 485584134045. 1
- 485584134046. 2
- 485584134047. 3
- 485584134048. 4

**Question Number : 98 Question Id : 48558433513 Question Type : MCQ Option Shuffling : No Is Question Mandatory : No Calculator : None Response Time : N.A Think Time : N.A Minimum Instruction Time : 0**

**Correct Marks : 5 Wrong Marks : 1**

**Question Key Details :**

Key	Value
Comprehension	Comp2

Mergers: Read the case and answer the questions (46-50)

Gaurav owned an event management company called 'Lotus Ltd.' in Mumbai. He used to organise weddings, meetings, conferences, etc. These events were full of activities, music, food and entertainment. He used to outsource decoration material, food as well as entertainment from different vendors.

Ms. Geetika was an owner of catering and decoration company called Miles Ltd. in Mumbai. She used to cater the food and decoration needs of various customers such as corporate as well as family functions.

Gaurav & Geetika were performing well in their respective businesses until covid-19 lockdown was introduced. Due to lack of demand for food, decoration and events, both the companies started facing losses. As the lockdown was lifted, nearly after a year, both Gaurav and Geetika were facing problems in managing their increasing operational costs with lesser number of customers. As they were planning to look for better business opportunity, they got to meet each other at an 'exponential' organised by trades of Mumbai at BKC ground.

In this 'exponential', there were different traders sharing their business ideas with each other. Hence, it was here that Gaurav and Geetika decided to restart their business by merging their operations with a new company name. 'G<sup>2</sup> Lotus Miles Ltd'. They both shared their contacts of vendors and customers with each other and started getting order for events, food, decoration, entertainment, etc. Their business started blooming as their costs were lesser and more customers with demand of services given by Gaurav and Geetika.

Now its been two years that both of them have grown their business into other cities of Maharashtra like, Pune, Ahmednagar and Nagpur under the company name of 'G<sup>2</sup> Lotus Miles Ltd'. The company is growing with increased annual sales of 30%.

"G<sup>2</sup> Lotus Miles Ltd." is related to-

1. Manufacturing
2. Service
3. Distribution
4. Trading

**Options :**

- 485584134049. 1
- 485584134050. 2
- 485584134051. 3
- 485584134052. 4

**Question Number : 98 Question Id : 48558433513 Question Type : MCQ Option Shuffling : No Is Question Mandatory : No Calculator : None Response Time : N.A Think Time : N.A Minimum Instruction Time : 0**

**Correct Marks : 5 Wrong Marks : 1**

**Question Key Details :**

Key	Value
Comprehension	Comp2

ലയനങ്ങൾ: കേസ് വായിച്ച്, ചോദ്യങ്ങൾക്ക് ഉത്തരം എഴുതുക (46-50)

'ലോട്ടസ് ലിമിറ്റഡ്' എന്ന പേരിൽ മുംബൈയിൽ ഒരു ഇവന്റ് മാനേജ്മെന്റ് കമ്പനി നടത്തുകയാണ് ഗൗരവ്. വിവാഹങ്ങൾ, മീറ്റിംഗുകൾ, കോൺഫ്രൻസുകൾ എന്നിവയെല്ലാം ഇയാൾ സംഘടിപ്പിക്കാറുണ്ട്. വിവിധ കലാപരിപാടികൾ, വിനോദ പ്രവർത്തനങ്ങൾ, ഭക്ഷണം എന്നിവയെല്ലാം ഇതിനായി മറ്റു സ്ഥാപനങ്ങൾക്ക് പുറം കരാർ കൊടുക്കാറാണ് പതിവ്.

മുംബൈയിൽ മൈൽസ് ലിമിറ്റഡ് എന്ന പേരിലുള്ള ഡെക്കറേഷൻ-കേറ്ററിംഗ് കമ്പനിയുടെ ഉടമയാണ് ഗീതിക. വിവിധ കമ്പനി-കുടുംബ ഉപഭോക്താക്കൾ പരിപാടികൾക്ക് ആവശ്യമായ ഭക്ഷണവും അലങ്കാരങ്ങളും ചെയ്യുകൊടുക്കുന്നത് കമ്പനിയാണ് ഇത്.

കൊവിഡ്-19-നെ തുടർന്നുള്ള ലോക്ക്ഡൗൺ വരെ ഗൗരവിന്റെയും ഗീതികയുടെയും ബിസിനസ് നല്ല നിലയിലായിരുന്നു പ്രവർത്തിച്ചിരുന്നത്. എന്നാൽ കൊവിഡ് കാലത്ത് പരിപാടികൾക്കുള്ള ഭക്ഷണ-അലങ്കാരങ്ങൾക്കുള്ള ആവശ്യക്കാർ കുറഞ്ഞതിനാൽ രണ്ടു പേരുടെയും ബിസിനസ് നഷ്ടത്തിലായി. ഒരു വർഷം കഴിഞ്ഞ് ലോക്ക്ഡൗൺ പിൻവലിച്ചപ്പോൾ ഓർഡറുകൾ കുറഞ്ഞതിനാൽ പ്രവർത്തന ചെലവ് വളരെ വർദ്ധിച്ചു. പുതിയ അവസരങ്ങളെ കുറിച്ച് ചിന്തിക്കുന്ന സമയത്താണ് മുംബൈ 'BKC' മൈതാനത്തു വച്ചു നടന്ന ബിസിനസ് സംഗമത്തിൽ വച്ച് അവർ കണ്ടുമുട്ടുന്നത്.

ഈ സംഗമത്തിൽ വച്ച് പല ബിസിനസുകാരും പല പുതിയ ആശയങ്ങളും പങ്കുവെച്ചു. ഇതേ തുടർന്ന് തങ്ങളുടെ ബിസിനസുകൾ ലയിപ്പിച്ചു കൊണ്ട് 'ട്വോട്ടസ് മൈൽസ് ലിമിറ്റഡ്' എന്ന പേരിൽ ഒരു കമ്പനി തുടങ്ങാൻ തീരുമാനിച്ചു. അവരുടെ രണ്ടു പേരുടെയും വിതരണക്കാരുടെയും ഉപഭോക്താക്കളുടെയും വിശദാംശങ്ങൾ പരസ്പരം കൈമാറുകയും അതിലൂടെ വിവിധ പരിപാടികളുടെ ഭക്ഷണം, അലങ്കാരം, വിനോദ കാര്യങ്ങൾ എന്നിവയ്ക്കുള്ള ഓർഡറുകൾ ലഭിക്കാനും തുടങ്ങി. കൂടുതൽ ഉപഭോക്താക്കൾക്ക് സേവനം വ്യാപിക്കുന്നതിലൂടെ ചെലവുകൾ കുറയ്ക്കാനും ബിസിനസ് അഭിവൃദ്ധിപ്പെടാനും തുടങ്ങി.

രണ്ട് വർഷങ്ങൾക്കു ശേഷം ഇന്ന് ഇവരുടെ ബിസിനസ് മഹാരാഷ്ട്രയിലെ മറ്റു പട്ടണങ്ങളായ പൂനെ, അഹമ്മദാബദ്, നാഗ്പൂർ എന്നിവിടങ്ങളിലേക്കും 'ട്വോട്ടസ് മൈൽസ് ലിമിറ്റഡ്' എന്ന പേരിൽ തന്നെ വളർന്നു. 30% വാർഷിക വിൽപന വർദ്ധനവോടു കൂടി ഈ കമ്പനി വളർന്നു കൊണ്ടിരിക്കുകയാണ്.

'ട്വോട്ടസ് മൈൽസ് ലിമിറ്റഡ്' ഏതുമായി ബന്ധപ്പെട്ടിരിക്കുന്നു:

1. ഉല്പന്ന നിർമ്മാണം
2. സേവനങ്ങൾ
3. വിതരണം
4. കച്ചവടം

**Options :**

- 485584134049. 1
- 485584134050. 2
- 485584134051. 3
- 485584134052. 4

**Question Number : 99 Question Id : 48558433514 Question Type : MCQ Option Shuffling : No Is Question Mandatory : No Calculator : None Response Time : N.A Think Time : N.A Minimum Instruction Time : 0**

**Correct Marks : 5 Wrong Marks : 1**

**Question Key Details :**

Key	Value
Comprehension	Comp2

Mergers: Read the case and answer the questions (46-50)

Gaurav owned an event management company called 'Lotus Ltd.' in Mumbai. He used to organise weddings, meetings, conferences, etc. These events were full of activities, music, food and entertainment. He used to outsource decoration material, food as well as entertainment from different vendors.

Ms. Geetika was an owner of catering and decoration company called Miles Ltd. in Mumbai. She used to cater the food and decoration needs of various customers such as corporate as well as family functions.

Gaurav & Geetika were performing well in their respective businesses until covid-19 lockdown was introduced. Due to lack of demand for food, decoration and events, both the companies started facing losses. As the lockdown was lifted, nearly after a year, both Gaurav and Geetika were facing problems in managing their increasing operational costs with lesser number of customers. As they were planning to look for better business opportunity, they got to meet each other at an 'exponential' organised by trades of Mumbai at BKC ground.

In this 'exponential', there were different traders sharing their business ideas with each other. Hence, it was here that Gaurav and Geetika decided to restart their business by merging their operations with a new company name. 'G<sup>2</sup> Lotus Miles Ltd'. They both shared their contacts of vendors and customers with each other and started getting order for events, food, decoration, entertainment, etc. Their business started blooming as their costs were lesser and more customers with demand of services given by Gaurav and Geetika.

Now its been two years that both of them have grown their business into other cities of Maharashtra like, Pune, Ahmednagar and Nagpur under the company name of 'G<sup>2</sup> Lotus Miles Ltd'. The company is growing with increased annual sales of 30%.

Match List I with List II

LIST I		LIST II	
A.	Event Management Company	I.	Miles Ltd
B.	External Expansion	II.	Lotus Ltd.
C.	Operational synergy	III.	Merger
D.	Catering and decoration company	IV.	G <sup>2</sup> Lotus Miles Ltd

Choose the correct answer from the options given below:

1. A-I, B-III, C-II, D-IV
2. A-II, B-III, C-IV, D-I
3. A-III, B-II, C-IV, D-I
4. A-IV, B-III, C-II, D-I

**Options :**

485584134053. 1  
485584134054. 2  
485584134055. 3  
485584134056. 4

**Question Number : 99 Question Id : 48558433514 Question Type : MCQ Option Shuffling : No Is Question Mandatory : No Calculator : None Response Time : N.A Think Time : N.A Minimum Instruction Time : 0**

**Correct Marks : 5 Wrong Marks : 1**

**Question Key Details :**

Key	Value
Comprehension	Comp2

ലയനങ്ങൾ: കേസ് വായിച്ച്, ചോദ്യങ്ങൾക്ക് ഉത്തരം എഴുതുക (46-50)

'ലോട്ടസ് ലിമിറ്റഡ്' എന്ന പേരിൽ മുംബൈയിൽ ഒരു ഇവന്റ് മാനേജ്മെന്റ് കമ്പനി നടത്തുകയാണ് ഗൗരവ്. വിവാഹങ്ങൾ, മീറ്റിംഗുകൾ, കോൺഫ്രൻസുകൾ എന്നിവയെല്ലാം ഇയാൾ സംഘടിപ്പിക്കാറുണ്ട്. വിവിധ കലാപരിപാടികൾ, വിനോദ പ്രവർത്തനങ്ങൾ, ഭക്ഷണം എന്നിവയെല്ലാം ഇതിനായി മറ്റു സ്ഥാപനങ്ങൾക്ക് പുറം കരാർ കൊടുക്കാറാണ് പതിവ്.

മുംബൈയിൽ മൈൽസ് ലിമിറ്റഡ് എന്ന പേരിലുള്ള ഡെക്കറേഷൻ-കേറ്ററിംഗ് കമ്പനിയുടെ ഉടമയാണ് ഗീതിക. വിവിധ കമ്പനി-കുടുംബ ഉപഭോക്താക്കൾ പരിപാടികൾക്ക് ആവശ്യമായ ഭക്ഷണവും അലങ്കാരങ്ങളും ചെയ്യുകൊടുക്കുന്നത് കമ്പനിയാണ് ഇത്.

കൊവിഡ്-19-നെ തുടർന്നുള്ള ലോക്ക്ഡൗൺ വരെ ഗൗരവിന്റെയും ഗീതികയുടെയും ബിസിനസ് നല്ല നിലയിലായിരുന്നു പ്രവർത്തിച്ചിരുന്നത്. എന്നാൽ കൊവിഡ് കാലത്ത് പരിപാടികൾക്കുള്ള ഭക്ഷണ-അലങ്കാരങ്ങൾക്കുള്ള ആവശ്യക്കാർ കുറഞ്ഞതിനാൽ രണ്ടു പേരുടെയും ബിസിനസ് നഷ്ടത്തിലായി. ഒരു വർഷം കഴിഞ്ഞ് ലോക്ക്ഡൗൺ പിൻവലിച്ചപ്പോൾ ഓർഡറുകൾ കുറഞ്ഞതിനാൽ പ്രവർത്തന ചെലവ് വളരെ വർദ്ധിച്ചു. പുതിയ അവസരങ്ങളെ കുറിച്ച് ചിന്തിക്കുന്ന സമയത്താണ് മുംബൈ 'BKC' മൈതാനത്തു വച്ചു നടന്ന ബിസിനസ് സംഗമത്തിൽ വച്ച് അവർ കണ്ടുമുട്ടുന്നത്.

ഈ സംഗമത്തിൽ വച്ച് പല ബിസിനസുകാരും പല പുതിയ ആശയങ്ങളും പങ്കുവെച്ചു. ഇതേ തുടർന്ന് തങ്ങളുടെ ബിസിനസുകൾ ലയിപ്പിച്ചു കൊണ്ട് 'ട്രിലോട്ടസ് മൈൽസ് ലിമിറ്റഡ്' എന്ന പേരിൽ ഒരു കമ്പനി തുടങ്ങാൻ തീരുമാനിച്ചു. അവരുടെ രണ്ടു പേരുടെയും വിതരണക്കാരുടെയും ഉപഭോക്താക്കളുടെയും വിശദാംശങ്ങൾ പരസ്പരം കൈമാറുകയും അതിലൂടെ വിവിധ പരിപാടികളുടെ ഭക്ഷണം, അലങ്കാരം, വിനോദ കാര്യങ്ങൾ എന്നിവയ്ക്കുള്ള ഓർഡറുകൾ ലഭിക്കാനും തുടങ്ങി. കൂടുതൽ ഉപഭോക്താക്കൾക്ക് സേവനം വ്യാപിക്കുന്നതിലൂടെ ചെലവുകൾ കുറയ്ക്കാനും ബിസിനസ് അഭിവൃദ്ധിപ്പെടാനും തുടങ്ങി.

രണ്ട് വർഷങ്ങൾക്കു ശേഷം ഇന്ന് ഇവരുടെ ബിസിനസ് മഹാരാഷ്ട്രയിലെ മറ്റു പട്ടണങ്ങളായ പൂനെ, അഹമ്മദാബാദ്, നാഗ്പൂർ എന്നിവിടങ്ങളിലേക്കും 'ട്രിലോട്ടസ് മൈൽസ് ലിമിറ്റഡ്' എന്ന പേരിൽ തന്നെ വളർന്നു. 30% വാർഷിക വിൽപന വർദ്ധനവോടു കൂടി ഈ കമ്പനി വളർന്നു കൊണ്ടിരിക്കുകയാണ്.

പട്ടിക I, പട്ടിക II എന്നിവ ചേരും പടി ചേർക്കുക

പട്ടിക I		പട്ടിക II	
A.	ഇവന്റ് മാനേജ്മെന്റ് കമ്പനി	I.	മൈൽസ് ലിമിറ്റഡ്
B.	ബാഹ്യ വിപുലീകരണം	II.	ലോട്ടസ് ലിമിറ്റഡ്
C.	പ്രവർത്തന സിനർജി	III.	ലയനം
D.	കേറ്ററിംഗ്, ഡെക്കറേഷൻ	IV.	ട്രിലോട്ടസ് മൈൽസ് ലിമിറ്റഡ്

താഴെ തന്നിരിക്കുന്ന ഓപ്ഷനുകളിൽ നിന്നും ശരിയുത്തരം തിരഞ്ഞെടുക്കുക:

1. A-I, B-III, C-II, D-IV
2. A-II, B-III, C-IV, D-I
3. A-III, B-II, C-IV, D-I
4. A-IV, B-III, C-II, D-I

Options :

- 485584134053. 1
- 485584134054. 2
- 485584134055. 3
- 485584134056. 4

Question Number : 100 Question Id : 48558433515 Question Type : MCQ Option Shuffling : No Is Question Mandatory : No Calculator : None Response Time : N.A Think Time : N.A Minimum Instruction Time : 0

Correct Marks : 5 Wrong Marks : 1

Question Key Details :

Key	Value
-----	-------

Comprehension	Comp2
---------------	-------

Mergers: Read the case and answer the questions (46-50)

Gaurav owned an event management company called 'Lotus Ltd.' in Mumbai. He used to organise weddings, meetings, conferences, etc. These events were full of activities, music, food and entertainment. He used to outsource decoration material, food as well as entertainment from different vendors.

Ms. Geetika was an owner of catering and decoration company called Miles Ltd. in Mumbai. She used to cater the food and decoration needs of various customers such as corporate as well as family functions.

Gaurav & Geetika were performing well in their respective businesses until covid-19 lockdown was introduced. Due to lack of demand for food, decoration and events, both the companies started facing losses. As the lockdown was lifted, nearly after a year, both Gaurav and Geetika were facing problems in managing their increasing operational costs with lesser number of customers. As they were planning to look for better business opportunity, they got to meet each other at an 'exponential' organised by trades of Mumbai at BKC ground.

In this 'exponential', there were different traders sharing their business ideas with each other. Hence, it was here that Gaurav and Geetika decided to restart their business by merging their operations with a new company name. 'G<sup>2</sup> Lotus Miles Ltd'. They both shared their contacts of vendors and customers with each other and started getting order for events, food, decoration, entertainment, etc. Their business started blooming as their costs were lesser and more customers with demand of services given by Gaurav and Geetika.

Now its been two years that both of them have grown their business into other cities of Maharashtra like, Pune, Ahmednagar and Nagpur under the company name of 'G<sup>2</sup> Lotus Miles Ltd'. The company is growing with increased annual sales of 30%.

If Gaurav could raise sufficient funds to acquire 'Miles Ltd'. This acquisition would be called:

1. Friendly Acquisition
2. Reverse Acquisition
3. Back flip Acquisition
4. Hostile Acquisition

**Options :**

485584134057. 1  
 485584134058. 2  
 485584134059. 3  
 485584134060. 4

**Question Number : 100 Question Id : 48558433515 Question Type : MCQ Option Shuffling : No Is Question Mandatory : No Calculator : None Response Time : N.A Think Time : N.A Minimum Instruction Time : 0**

**Correct Marks : 5 Wrong Marks : 1**

**Question Key Details :**

Key	Value
Comprehension	Comp2



ലയനങ്ങൾ: കേസ് വായിച്ച്, ചോദ്യങ്ങൾക്ക് ഉത്തരം എഴുതുക (46-50)

'ലോട്ടസ് ലിമിറ്റഡ്' എന്ന പേരിൽ മുംബൈയിൽ ഒരു ഇവന്റ് മാനേജ്മെന്റ് കമ്പനി നടത്തുകയാണ് ഗൗരവ്. വിവാഹങ്ങൾ, മീറ്റിംഗുകൾ, കോൺഫ്രൻസുകൾ എന്നിവയെല്ലാം ഇയാൾ സംഘടിപ്പിക്കാറുണ്ട്. വിവിധ കലാപരിപാടികൾ, വിനോദ പ്രവർത്തനങ്ങൾ, ഭക്ഷണം എന്നിവയെല്ലാം ഇതിനായി മറ്റു സ്ഥാപനങ്ങൾക്ക് പുറം കരാർ കൊടുക്കാറാണ് പതിവ്.

മുംബൈയിൽ മൈൽസ് ലിമിറ്റഡ് എന്ന പേരിലുള്ള ഡെക്കറേഷൻ-കേറ്ററിംഗ് കമ്പനിയുടെ ഉടമയാണ് ഗീതിക. വിവിധ കമ്പനി-കുടുംബ ഉപഭോക്താക്കൾ പരിപാടികൾക്ക് ആവശ്യമായ ഭക്ഷണവും അലങ്കാരങ്ങളും ചെയ്യുകൊടുക്കുന്നത് കമ്പനിയാണ് ഇത്.

കൊവിഡ്-19-നെ തുടർന്നുള്ള ലോക്ക്ഡൗൺ വരെ ഗൗരവിന്റെയും ഗീതികയുടെയും ബിസിനസ് നല്ല നിലയിലായിരുന്നു പ്രവർത്തിച്ചിരുന്നത്. എന്നാൽ കൊവിഡ് കാലത്ത് പരിപാടികൾക്കുള്ള ഭക്ഷണ-അലങ്കാരങ്ങൾക്കുള്ള ആവശ്യക്കാർ കുറഞ്ഞതിനാൽ രണ്ടു പേരുടെയും ബിസിനസ് നഷ്ടത്തിലായി. ഒരു വർഷം കഴിഞ്ഞ് ലോക്ക്ഡൗൺ പിൻവലിച്ചപ്പോൾ ഓർഡറുകൾ കുറഞ്ഞതിനാൽ പ്രവർത്തന ചെലവ് വളരെ വർദ്ധിച്ചു. പുതിയ അവസരങ്ങളെ കുറിച്ച് ചിന്തിക്കുന്ന സമയത്താണ് മുംബൈ 'BKC' മൈതാനത്തു വച്ചു നടന്ന ബിസിനസ് സംഗമത്തിൽ വച്ച് അവർ കണ്ടുമുട്ടുന്നത്.

ഈ സംഗമത്തിൽ വച്ച് പല ബിസിനസുകാരും പല പുതിയ ആശയങ്ങളും പങ്കുവെച്ചു. ഇതേ തുടർന്ന് തങ്ങളുടെ ബിസിനസുകൾ ലയിപ്പിച്ചു കൊണ്ട് 'ട്രിലോട്ടസ് മൈൽസ് ലിമിറ്റഡ്' എന്ന പേരിൽ ഒരു കമ്പനി തുടങ്ങാൻ തീരുമാനിച്ചു. അവരുടെ രണ്ടു പേരുടെയും വിതരണക്കാരുടെയും ഉപഭോക്താക്കളുടെയും വിശദാംശങ്ങൾ പരസ്പരം കൈമാറുകയും അതിലൂടെ വിവിധ പരിപാടികളുടെ ഭക്ഷണം, അലങ്കാരം, വിനോദ കാര്യങ്ങൾ എന്നിവയ്ക്കുള്ള ഓർഡറുകൾ ലഭിക്കാനും തുടങ്ങി. കൂടുതൽ ഉപഭോക്താക്കൾക്ക് സേവനം വ്യാപിക്കുന്നതിലൂടെ ചെലവുകൾ കുറയ്ക്കാനും ബിസിനസ് അഭിവൃദ്ധിപ്പെടാനും തുടങ്ങി.

രണ്ട് വർഷങ്ങൾക്കു ശേഷം ഇന്ന് ഇവരുടെ ബിസിനസ് മഹാരാഷ്ട്രയിലെ മറ്റു പട്ടണങ്ങളായ പൂനെ, അഹമ്മദാബാദ്, നാഗ്പൂർ എന്നിവിടങ്ങളിലേക്കും 'ട്രിലോട്ടസ് മൈൽസ് ലിമിറ്റഡ്' എന്ന പേരിൽ തന്നെ വളർന്നു. 30% വാർഷിക വിൽപന വർദ്ധനവോടു കൂടി ഈ കമ്പനി വളർന്നു കൊണ്ടിരിക്കുകയാണ്.

'മൈൽസ് ലിമിറ്റഡി'നെ ഏറ്റെടുക്കാനുള്ള ഫണ്ടുകൾ ഗൗരവിന് കണ്ടെത്താൻ കഴിഞ്ഞിരുന്നെങ്കിൽ, അത്തരം ഏറ്റെടുക്കലിന് എന്ത് പേര് പറയാം?

1. സൗഹൃദ ഏറ്റെടുക്കൽ
2. എതിർദിശ ഏറ്റെടുക്കൽ
3. ബാക്ക് ഫ്ലിപ്പ് ഏറ്റെടുക്കൽ
4. ശ്രത്രൂതാ ഏറ്റെടുക്കൽ

**Options :**

- 485584134057. 1
- 485584134058. 2
- 485584134059. 3
- 485584134060. 4

**Geography**

<b>Group Number :</b>	7
<b>Group Id :</b>	485584745
<b>Group Maximum Duration :</b>	45
<b>Group Minimum Duration :</b>	45
<b>Show Attended Group? :</b>	No
<b>Edit Attended Group? :</b>	No
<b>Break time :</b>	0
<b>Group Marks :</b>	200
<b>Is this Group for Examiner? :</b>	No
<b>Examiner permission :</b>	Cant View

Show Progress Bar? :

No

## Geography

Section Id : 485584859  
Section Number : 1  
Section type : Online  
Mandatory or Optional : Mandatory  
Number of Questions : 50  
Number of Questions to be attempted : 40  
Section Marks : 200  
Enable Mark as Answered Mark for Review and Clear Response : Yes  
Maximum Instruction Time : 0  
Sub-Section Number : 1  
Sub-Section Id : 4855842425  
Question Shuffling Allowed : Yes  
Is Section Default? : null

Question Number : 101 Question Id : 48558433216 Question Type : MCQ Option Shuffling : No Is Question Mandatory : No Calculator : None Response Time : N.A Think Time : N.A Minimum Instruction Time : 0  
Correct Marks : 5 Wrong Marks : 1

Question Key Details :

Key	Value
Comprehension	MCQ

"Human Geography is the synthetic study of relationship between human societies and earth's surface" among the following who gave the above definition on Human Geography.

1. Paul Vidal de la Blache
2. Ellen C Semple
3. Ratzel
4. Ralph W. Emerson

Options :

485584132861. 1  
485584132862. 2  
485584132863. 3  
485584132864. 4

Question Number : 102 Question Id : 48558433217 Question Type : MCQ Option Shuffling : No Is Question Mandatory : No Calculator : None Response Time : N.A Think Time : N.A Minimum Instruction Time : 0  
Correct Marks : 5 Wrong Marks : 1

Question Key Details :

Key	Value
Comprehension	MCQ

Which one of the following is the name of Ethiopian capital?

1. Al Qahirah
2. Tehran
3. Canberra
4. Addis Ababa

**Options :**

485584132865. 1  
485584132866. 2  
485584132867. 3  
485584132868. 4

**Question Number : 103 Question Id : 48558433218 Question Type : MCQ Option Shuffling : No Is Question Mandatory : No Calculator : None Response Time : N.A Think Time : N.A Minimum Instruction Time : 0**

**Correct Marks : 5 Wrong Marks : 1**

**Question Key Details :**

Key	Value
Comprehension	MCQ

What is the percentage of world population living in urban areas in 2017?

1. 37%
2. 48%
3. 58%
4. 54%

**Options :**

485584132869. 1  
485584132870. 2  
485584132871. 3  
485584132872. 4

**Question Number : 104 Question Id : 48558433219 Question Type : MCQ Option Shuffling : No Is Question Mandatory : No Calculator : None Response Time : N.A Think Time : N.A Minimum Instruction Time : 0**

**Correct Marks : 5 Wrong Marks : 1**

**Question Key Details :**

Key	Value
Comprehension	MCQ

Which one of the following is not the approach of human Geography?

1. Regional Analysis
2. Areal Differentiation
3. Technological Analysis
4. Post-Modernism

**Options :**

- 485584132873. 1
- 485584132874. 2
- 485584132875. 3
- 485584132876. 4

**Question Number : 105 Question Id : 48558433220 Question Type : MCQ Option Shuffling : No Is Question Mandatory : No Calculator : None Response Time : N.A Think Time : N.A Minimum Instruction Time : 0**

**Correct Marks : 5 Wrong Marks : 1**

**Question Key Details :**

Key	Value
Comprehension	MCQ

Who introduced stop and go determinism?

1. Ratzal
2. Ellian sample
3. Griffith Taylor
4. Paul Vidal de la Blache

**Options :**

- 485584132877. 1
- 485584132878. 2
- 485584132879. 3
- 485584132880. 4

**Question Number : 106 Question Id : 48558433221 Question Type : MCQ Option Shuffling : No Is Question Mandatory : No Calculator : None Response Time : N.A Think Time : N.A Minimum Instruction Time : 0**

**Correct Marks : 5 Wrong Marks : 1**

**Question Key Details :**

Key	Value
Comprehension	MCQ

"This happens when the birth rate is more than the death rate between two points of time" choose the right from the following.

1. Stationary Population
2. Actual Growth of Population
3. Negative Growth of Population
4. Positive Growth of Population

**Options :**

- 485584132881. 1
- 485584132882. 2
- 485584132883. 3
- 485584132884. 4

**Question Number : 107 Question Id : 48558433222 Question Type : MCQ Option Shuffling : No Is Question Mandatory : No Calculator : None Response Time : N.A Think Time : N.A Minimum Instruction Time : 0**

**Correct Marks : 5 Wrong Marks : 1**

**Question Key Details :**

Key	Value
Comprehension	MCQ

The 'Alaskan Highway' links which of the following?

1. British Colombia to St. John city
2. Edmonton to Anchorage
3. Darwin to Malborne
4. Algiers to Conakry

**Options :**

- 485584132885. 1
- 485584132886. 2
- 485584132887. 3
- 485584132888. 4

**Question Number : 108 Question Id : 48558433223 Question Type : MCQ Option Shuffling : No Is Question Mandatory : No Calculator : None Response Time : N.A Think Time : N.A Minimum Instruction Time : 0**

**Correct Marks : 5 Wrong Marks : 1**

**Question Key Details :**

Key	Value
Comprehension	MCQ

When and by whom Human development index was created?

1. Prof A. Shaws (1991)
2. Prof Amartya Sen, 1990
3. Dr. Mahbub-Ul-Haq, 1990
4. Prof Amartya Sen 1991

**Options :**

- 485584132889. 1
- 485584132890. 2
- 485584132891. 3
- 485584132892. 4

**Question Number : 109 Question Id : 48558433224 Question Type : MCQ Option Shuffling : No Is Question Mandatory : No Calculator : None Response Time : N.A Think Time : N.A Minimum Instruction Time : 0**

**Correct Marks : 5 Wrong Marks : 1**

**Question Key Details :**

Key	Value
Comprehension	MCQ

Famous pipeline 'Big Inch' is located in \_\_\_\_\_.

1. Saudi Arabia
2. Qutar
3. USA
4. Venezuela

**Options :**

- 485584132893. 1
- 485584132894. 2
- 485584132895. 3
- 485584132896. 4

**Question Number : 110 Question Id : 48558433225 Question Type : MCQ Option Shuffling : No Is Question Mandatory : No Calculator : None Response Time : N.A Think Time : N.A Minimum Instruction Time : 0**

**Correct Marks : 5 Wrong Marks : 1**

**Question Key Details :**

Key	Value
Comprehension	MCQ

How many of the following cities in world have attained the million status at the beginning of 2005.

1. 206
2. 437
3. 469
4. 438

**Options :**

- 485584132897. 1
- 485584132898. 2
- 485584132899. 3
- 485584132900. 4

**Question Number : 111 Question Id : 48558433226 Question Type : MCQ Option Shuffling : No Is Question Mandatory : No Calculator : None Response Time : N.A Think Time : N.A Minimum Instruction Time : 0**

**Correct Marks : 5 Wrong Marks : 1**

**Question Key Details :**

Key	Value
Comprehension	MCQ

Which among the following is not a factor that discourage women to migrate from rural to urban areas?

1. Shortage of housing
2. Paucity of job opportunities
3. Low cost of living
4. Lack of security in cities

**Options :**

- 485584132901. 1
- 485584132902. 2
- 485584132903. 3
- 485584132904. 4

**Question Number : 112 Question Id : 48558433227 Question Type : MCQ Option Shuffling : No Is Question Mandatory : No Calculator : None Response Time : N.A Think Time : N.A Minimum Instruction Time : 0**

**Correct Marks : 5 Wrong Marks : 1**

**Question Key Details :**

Key	Value
Comprehension	MCQ

In the Age sex pyramid a narrow base and a tapered top represents which of the following?

1. Declining Population Pyramid
2. Constant Population Pyramid
3. Expanding Population Pyramid
4. Triangular Shaped Pyramid

**Options :**

- 485584132905. 1
- 485584132906. 2
- 485584132907. 3
- 485584132908. 4

**Question Number : 113 Question Id : 48558433228 Question Type : MCQ Option Shuffling : No Is Question Mandatory : No Calculator : None Response Time : N.A Think Time : N.A Minimum Instruction Time : 0**

**Correct Marks : 5 Wrong Marks : 1**

**Question Key Details :**

Key	Value
Comprehension	MCQ

Which one of the following states of India has the highest female literacy?

1. Tamil Nadu
2. Punjab
3. Haryana
4. Kerala

**Options :**

- 485584132909. 1
- 485584132910. 2
- 485584132911. 3
- 485584132912. 4

**Question Number : 114 Question Id : 48558433229 Question Type : MCQ Option Shuffling : No Is Question Mandatory : No Calculator : None Response Time : N.A Think Time : N.A Minimum Instruction Time : 0**

**Correct Marks : 5 Wrong Marks : 1**

**Question Key Details :**

Key	Value
Comprehension	MCQ



The first complete census was conducted in India in which year ?

1. 1861
2. 1871
3. 1881
4. 1891

**Options :**

485584132913. 1  
485584132914. 2  
485584132915. 3  
485584132916. 4

**Question Number : 115 Question Id : 48558433230 Question Type : MCQ Option Shuffling : No Is Question Mandatory : No Calculator : None Response Time : N.A Think Time : N.A Minimum Instruction Time : 0**

**Correct Marks : 5 Wrong Marks : 1**

**Question Key Details :**

Key	Value
Comprehension	MCQ

How many Railway Zones are there in India?

1. 12
2. 14
3. 15
4. 16

**Options :**

485584132917. 1  
485584132918. 2  
485584132919. 3  
485584132920. 4

**Question Number : 116 Question Id : 48558433231 Question Type : MCQ Option Shuffling : No Is Question Mandatory : No Calculator : None Response Time : N.A Think Time : N.A Minimum Instruction Time : 0**

**Correct Marks : 5 Wrong Marks : 1**

**Question Key Details :**

Key	Value
Comprehension	MCQ

According to Grierson (Linguistic Survey of India 1903-1928) how many languages were there in India?

1. 544
2. 22
3. 179
4. 267

**Options :**

485584132921. 1  
485584132922. 2  
485584132923. 3  
485584132924. 4

**Question Number : 117 Question Id : 48558433232 Question Type : MCQ Option Shuffling : No Is Question Mandatory : No Calculator : None Response Time : N.A Think Time : N.A Minimum Instruction Time : 0**

**Correct Marks : 5 Wrong Marks : 1**

**Question Key Details :**

Key	Value
Comprehension	MCQ

Which phase is referred to as the period of population explosion in India?

1. Phase I (1901-1921)
2. Phase II (1921-1951)
3. Phase III (1951-1981)
4. Phase IV (Post 1981 till present)

**Options :**

485584132925. 1  
485584132926. 2  
485584132927. 3  
485584132928. 4

**Question Number : 118 Question Id : 48558433233 Question Type : MCQ Option Shuffling : No Is Question Mandatory : No Calculator : None Response Time : N.A Think Time : N.A Minimum Instruction Time : 0**

**Correct Marks : 5 Wrong Marks : 1**

**Question Key Details :**

Key	Value
Comprehension	MCQ

Which one of the following town / cities has not been developed as an administrative headquarters after Independence?

1. Jamshedpur
2. Chandigarh
3. Gandhinagar
4. Dispur

**Options :**

485584132929. 1  
485584132930. 2  
485584132931. 3  
485584132932. 4

**Question Number : 119 Question Id : 48558433234 Question Type : MCQ Option Shuffling : No Is Question Mandatory : No Calculator : None Response Time : N.A Think Time : N.A Minimum Instruction Time : 0**

**Correct Marks : 5 Wrong Marks : 1**

**Question Key Details :**

Key	Value
Comprehension	MCQ

The famous Nehru Trophy Boat Race (Vallamkali) is held in the backwater of which of the following?

1. Andhra Pradesh
2. Goa
3. Karnataka
4. Kerala

**Options :**

485584132933. 1  
485584132934. 2  
485584132935. 3  
485584132936. 4

**Question Number : 120 Question Id : 48558433235 Question Type : MCQ Option Shuffling : No Is Question Mandatory : No Calculator : None Response Time : N.A Think Time : N.A Minimum Instruction Time : 0**

**Correct Marks : 5 Wrong Marks : 1**

**Question Key Details :**

Key	Value
Comprehension	MCQ

Which one among the following classes comprises the maximum number of town / cities in India as per Census of India 2011?

1. Class II
2. Class III
3. Class IV
4. Class V

**Options :**

485584132937. 1  
485584132938. 2  
485584132939. 3  
485584132940. 4

**Question Number : 121 Question Id : 48558433236 Question Type : MCQ Option Shuffling : No Is Question Mandatory : No Calculator : None Response Time : N.A Think Time : N.A Minimum Instruction Time : 0**

**Correct Marks : 5 Wrong Marks : 1**

**Question Key Details :**

Key	Value
Comprehension	MCQ

Which one of the following is an example of Ancient Town in India?

1. Prayag
2. Hyderabad
3. Delhi
4. Mumbai

**Options :**

485584132941. 1  
485584132942. 2  
485584132943. 3  
485584132944. 4

**Question Number : 122 Question Id : 48558433237 Question Type : MCQ Option Shuffling : No Is Question Mandatory : No Calculator : None Response Time : N.A Think Time : N.A Minimum Instruction Time : 0**

**Correct Marks : 5 Wrong Marks : 1**

**Question Key Details :**

Key	Value
Comprehension	MCQ

Which of the following Indian state has the highest density of population?

1. Bihar
2. Kerala
3. Uttar Pradesh
4. West Bengal

**Options :**

485584132945. 1  
485584132946. 2  
485584132947. 3  
485584132948. 4

**Question Number : 123 Question Id : 48558433238 Question Type : MCQ Option Shuffling : No Is Question Mandatory : No Calculator : None Response Time : N.A Think Time : N.A Minimum Instruction Time : 0**

**Correct Marks : 5 Wrong Marks : 1**

**Question Key Details :**

Key	Value
Comprehension	MCQ

The Ocean noise levels in 2003-04 were about \_\_\_\_\_ higher than in 1964-1966.

1. 20 decibels
2. 10-12 decibels
3. 5 decibels
4. 15-18 decibels

**Options :**

485584132949. 1  
485584132950. 2  
485584132951. 3  
485584132952. 4

**Question Number : 124 Question Id : 48558433239 Question Type : MCQ Option Shuffling : No Is Question Mandatory : No Calculator : None Response Time : N.A Think Time : N.A Minimum Instruction Time : 0**

**Correct Marks : 5 Wrong Marks : 1**

**Question Key Details :**

Key	Value
Comprehension	MCQ

Which one of the following contributes to the maximum length of the roads in India?

1. National Highway
2. State Highway
3. Districts Roads
4. Rural Roads

**Options :**

485584132953. 1  
485584132954. 2  
485584132955. 3  
485584132956. 4

**Question Number : 125 Question Id : 48558433240 Question Type : MCQ Option Shuffling : No Is Question Mandatory : No Calculator : None Response Time : N.A Think Time : N.A Minimum Instruction Time : 0**

**Correct Marks : 5 Wrong Marks : 1**

**Question Key Details :**

Key	Value
Comprehension	MCQ

Which one of the following is an Inland Port?

1. Kochhi Port
2. Ennore Port
3. Kolkata Port
4. Haldia Port

**Options :**

485584132957. 1  
485584132958. 2  
485584132959. 3  
485584132960. 4

**Question Number : 126 Question Id : 48558433241 Question Type : MCQ Option Shuffling : No Is Question Mandatory : No Calculator : None Response Time : N.A Think Time : N.A Minimum Instruction Time : 0**

**Correct Marks : 5 Wrong Marks : 1**

**Question Key Details :**

Key	Value
Comprehension	MCQ

Arrange the following approaches in the order?

- A. Spatial organization
- B. Exploration and description
- C. Post modernism in geography
- D. Regional Analysis

Choose the correct answer from the options given below:

- 1. A, C, B, D
- 2. B, D, A, C
- 3. C, D, B, A
- 4. D, A, C, B

**Options :**

- 485584132961. 1
- 485584132962. 2
- 485584132963. 3
- 485584132964. 4

**Question Number : 127 Question Id : 48558433242 Question Type : MCQ Option Shuffling : No Is Question Mandatory : No Calculator : None Response Time : N.A Think Time : N.A Minimum Instruction Time : 0**

**Correct Marks : 5 Wrong Marks : 1**

**Question Key Details :**

Key	Value
Comprehension	MCQ

Arrange the following continents in descending order of population density

- A. North America
- B. Africa
- C. Oceania
- D. Asia

Choose the correct answer from the options given below:

- 1. D, B, A, C
- 2. D, C, B, A
- 3. D, A, B, C
- 4. D, A, C, B

**Options :**

- 485584132965. 1
- 485584132966. 2
- 485584132967. 3
- 485584132968. 4

**Question Number : 128 Question Id : 48558433243 Question Type : MCQ Option Shuffling : No Is Question Mandatory : No Calculator : None Response Time : N.A Think Time : N.A Minimum Instruction Time : 0**

**Correct Marks : 5 Wrong Marks : 1**

**Question Key Details :**

Key	Value
Comprehension	MCQ

Arrange the below mentioned Urban classification in correct sequence (small to large).

- A. City
- B. Conurbation
- C. Megalopolis
- D. Million City

Choose the correct answer from the options given below:

- 1. A, B, C, D
- 2. A, D, B, C
- 3. A, C, B, D
- 4. C, B, D, A

**Options :**

- 485584132969. 1
- 485584132970. 2
- 485584132971. 3
- 485584132972. 4

**Question Number : 129 Question Id : 48558433244 Question Type : MCQ Option Shuffling : No Is Question Mandatory : No Calculator : None Response Time : N.A Think Time : N.A Minimum Instruction Time : 0**

**Correct Marks : 5 Wrong Marks : 1**

**Question Key Details :**

Key	Value
Comprehension	MCQ

Arrange the below mentioned technology phases with population growth periods in correct order from birth of Christ to Present.

- A. Biotechnology
- B. Age of European exploration and colonization
- C. Information and computers
- D. Transportation development

Choose the correct answer from the options given below:

- 1. B, D, A, C
- 2. B, D, C, A
- 3. B, C, D, A
- 4. B, A, D, C



**Options :**

- 485584132973. 1
- 485584132974. 2
- 485584132975. 3
- 485584132976. 4

**Question Number : 130 Question Id : 48558433245 Question Type : MCQ Option Shuffling : No Is Question Mandatory : No Calculator : None Response Time : N.A Think Time : N.A Minimum Instruction Time : 0**

**Correct Marks : 5 Wrong Marks : 1**

**Question Key Details :**

Key	Value
Comprehension	MCQ

Arrange the following airports of India from east to west.

- A. Shillong
- B. Allahabad
- C. Udaipur
- D. Patna

Choose the correct answer from the options given below:

- 1. A, D, B, C
- 2. A, D, C, B
- 3. D, A, C, B
- 4. D, A, B, C

**Options :**

- 485584132977. 1
- 485584132978. 2
- 485584132979. 3
- 485584132980. 4

**Question Number : 131 Question Id : 48558433246 Question Type : MCQ Option Shuffling : No Is Question Mandatory : No Calculator : None Response Time : N.A Think Time : N.A Minimum Instruction Time : 0**

**Correct Marks : 5 Wrong Marks : 1**

**Question Key Details :**

Key	Value
Comprehension	MCQ

Choose indicators used to assess Human Development Index from below.

- A. Purchasing Power
- B. Happiness
- C. Life expectancy at Birth
- D. Gross Enrollment Ratio

Choose the correct answer from the options given below:

1. A, B, D only
2. A, C, D only
3. B, C, D only
4. B, A, C only

**Options :**

- 485584132981. 1
- 485584132982. 2
- 485584132983. 3
- 485584132984. 4

**Question Number : 132 Question Id : 48558433247 Question Type : MCQ Option Shuffling : No Is Question Mandatory : No Calculator : None Response Time : N.A Think Time : N.A Minimum Instruction Time : 0**

**Correct Marks : 5 Wrong Marks : 1**

**Question Key Details :**

Key	Value
Comprehension	MCQ

Major areas of rice production are:

- A. Bihar
- B. Karnataka
- C. West Bengal
- D. Chhattisgarh

Choose the correct answer from the options given below:

1. A, B and D only
2. B, C and D only
3. A, C and D only
4. A, B and C only

**Options :**

- 485584132985. 1
- 485584132986. 2
- 485584132987. 3
- 485584132988. 4

**Question Number : 133 Question Id : 48558433248 Question Type : MCQ Option Shuffling : No Is Question Mandatory : No Calculator : None Response Time : N.A Think Time : N.A Minimum Instruction Time : 0**

**Correct Marks : 5 Wrong Marks : 1**

**Question Key Details :**

Key	Value
Comprehension	MCQ

Read the following about Indira Gandhi Canal Command Area carefully.

- A. Indira Gandhi Canal was previously known as the Rajasthan Canal.
- B. The Canal Project was launched on 31 March ,1948.
- C. The Canal originates at Herike barrage in Punjab.
- D. They command area of stage-I lies in Ganganagar, Hanumangarh and northern part of Bikaner districts.

Choose the correct answer from the options given below:

- 1. A, B and C only
- 2. A, B and D only
- 3. A, C and D only
- 4. B, C and D only

**Options :**

- 485584132989. 1
- 485584132990. 2
- 485584132991. 3
- 485584132992. 4

**Question Number : 134 Question Id : 48558433249 Question Type : MCQ Option Shuffling : No Is Question Mandatory : No Calculator : None Response Time : N.A Think Time : N.A Minimum Instruction Time : 0**

**Correct Marks : 5 Wrong Marks : 1**

**Question Key Details :**

Key	Value
Comprehension	MCQ

Read the following statements about the North Western region of India carefully.

- A. Rajasthan is rich in building stones i.e. sandstone, granite, marble.
- B. Gujarat does not have petroleum deposits.
- C. Gujarat and Rajasthan both have rich source of salt
- D. This region provide raw material for Cement Industry

Choose the correct answer from the options given below:

- 1. A, B and C only
- 2. A, B and D only
- 3. A, C and D only
- 4. B, C and D only

**Options :**

485584132993. 1  
485584132994. 2  
485584132995. 3  
485584132996. 4

**Question Number : 135 Question Id : 48558433250 Question Type : MCQ Option Shuffling : No Is Question Mandatory : No Calculator : None Response Time : N.A Think Time : N.A Minimum Instruction Time : 0**

**Correct Marks : 5 Wrong Marks : 1**

**Question Key Details :**

Key	Value
Comprehension	MCQ

Which are the characteristics of Mechanised grain farming?

- A. It is practised in the semi-arid land of mid-latitudes.
- B. The size of the farm is too large.
- C. Variety of crops are grown with livestock.
- D. Entire operations of cultivation are mechanised.

Choose the correct answer from the options given below:

- 1. B, C and D only
- 2. A, B and D only
- 3. A, C and D only
- 4. A, B and C only

**Options :**

485584132997. 1  
485584132998. 2  
485584132999. 3  
485584133000. 4

**Question Number : 136 Question Id : 48558433251 Question Type : MCQ Option Shuffling : No Is Question Mandatory : No Calculator : None Response Time : N.A Think Time : N.A Minimum Instruction Time : 0**

**Correct Marks : 5 Wrong Marks : 1**

**Question Key Details :**

Key	Value
Comprehension	MCQ

Match List I with List II

LIST I (Country)		LIST II (Mega city)	
A.	Peru	I.	Jakarta
B.	Indonesia	II.	Manila
C.	Brazil	III.	Lima
D.	Philippines	IV.	Sao Paulo

Choose the correct answer from the options given below:

1. A-III, B-II, C-II, D-IV
2. A-III, B-I, C-IV, D-II
3. A-IV, B-II, C-I, D-III
4. A-IV, B-III, C-II, D-I

**Options :**

485584133001. 1  
485584133002. 2  
485584133003. 3  
485584133004. 4

**Question Number : 137 Question Id : 48558433252 Question Type : MCQ Option Shuffling : No Is Question Mandatory : No Calculator : None Response Time : N.A Think Time : N.A Minimum Instruction Time : 0**

**Correct Marks : 5 Wrong Marks : 1**

**Question Key Details :**

Key	Value
Comprehension	MCQ

Match List I with List II

LIST I Pollution		LIST II Sources of pollution	
A.	Air pollution	I.	Urban run-off
B.	Water pollution	II.	Advertising media
C.	Land pollution	III.	Combustion of biofuels
D.	Noise pollution	IV.	Improper human activities

Choose the correct answer from the options given below:

1. A-IV, B-I, C-II, D-III
2. A-IV, B-II, C-III, D-I
3. A-III, B-I, C-IV, D-II
4. A-III, B-II, C-I, D-IV

**Options :**

485584133005. 1  
485584133006. 2  
485584133007. 3  
485584133008. 4

**Question Number : 138 Question Id : 48558433253 Question Type : MCQ Option Shuffling : No Is Question Mandatory : No Calculator : None Response Time : N.A Think Time : N.A Minimum Instruction Time : 0 Correct Marks : 5 Wrong Marks : 1 Question Key Details :**

Key	Value
Comprehension	MCQ

Match List I with List II

LIST I States		LIST II Ports	
A.	Gujarat	I.	Mangaluru
B.	Maharashtra	II.	Kandla
C.	Karnataka	III.	Kochchi
D.	Kerala	IV.	Jawaharlal Nehru Port

Choose the correct answer from the options given below:

1. A-II, B-I, C-III, D-IV
2. A-II, B-IV, C-I, D-III
3. A-II, B-IV, C-III, D-I
4. A-IV, B-II, C-I, D-III

**Options :**

- 485584133009. 1
- 485584133010. 2
- 485584133011. 3
- 485584133012. 4

**Question Number : 139 Question Id : 48558433254 Question Type : MCQ Option Shuffling : No Is Question Mandatory : No Calculator : None Response Time : N.A Think Time : N.A Minimum Instruction Time : 0 Correct Marks : 5 Wrong Marks : 1 Question Key Details :**

Key	Value
Comprehension	MCQ

Match List I with List II

LIST I (Mining area)		LIST II (State)	
A.	kendujhar	I.	Maharashtra
B.	Ratnagiri	II.	Madhya Pradesh
C.	katni	III.	Rajasthan
D.	khetri	IV.	Odisha

Choose the correct answer from the options given below:

1. A-II, B-I, C-IV, D-III
2. A-IV, B-I, C-II, D-III
3. A-IV, B-II, C-III, D-I
4. A-II, B-III, C-IV, D-I

**Options :**

485584133013. 1  
485584133014. 2  
485584133015. 3  
485584133016. 4

**Question Number : 140 Question Id : 48558433255 Question Type : MCQ Option Shuffling : No Is Question Mandatory : No Calculator : None Response Time : N.A Think Time : N.A Minimum Instruction Time : 0**

**Correct Marks : 5 Wrong Marks : 1**

**Question Key Details :**

Key	Value
Comprehension	MCQ

Match List I with List II

LIST I Specialised functions		LIST II Port	
A.	Ports of Call	I.	Copenhagen
B.	Packet Station	II.	Kochi
C.	Entrepot Ports	III.	Aden
D.	Navel Ports	IV.	Dover

Choose the correct answer from the options given below:

1. A-III, B-IV, C-I, D-II
2. A-II, B-III, C-IV, D-I
3. A-I, B-II, C-III, D-IV
4. A-IV, B-I, C-II, D-III

**Options :**

485584133017. 1

485584133018. 2  
485584133019. 3  
485584133020. 4

**Sub-Section Number :** 2  
**Sub-Section Id :** 4855842426  
**Question Shuffling Allowed :** No  
**Is Section Default? :** null

**Question Number : 141 Question Id : 48558433256 Question Type : MCQ Option Shuffling : No Is Question Mandatory : No Calculator : None Response Time : N.A Think Time : N.A Minimum Instruction Time : 0 Correct Marks : 5 Wrong Marks : 1**

**Question Key Details :**

Key	Value
Comprehension	Comp1

Read the passage and answer 5 questions that follow:

High technology, or simply high-tech, is the latest generation of manufacturing activities. It is best understood as the application of intensive research and development (R and D) efforts leading to the manufacture of products of an advanced scientific and engineering character. Professional (white collar) workers make up a large share of the total workforce. These highly skilled specialists greatly outnumber the actual production (blue collar) workers. Robotics on the assembly line, computer-aided design (CAD) and manufacturing, electronic controls of smelting and refining processes, and the constant development of new chemical and pharmaceutical products are notable examples of a high-tech industry.

Neatly spaced, low, modern, dispersed, office-plant-lab buildings rather than massive assembly structures, factories and storage areas mark the-tech industrial landscape. Planned business parks for high-tech start-ups have become part of regional and local development schemes.

High-tech industries which are regionally concentrated, self-sustained and highly specialised are called technopolies. The Silicon Valley near San Francisco and Silicon Forest near Seattle are examples of technopolies.

Manufacturing contributes significantly to the world economy. Iron and steel, textiles, automobiles, petrochemicals and electronics are some of the world's most important manufacturing industries.

Which one of the following is not true about High-Tech industry?

1. High-Tech is latest manufacturing Industry
2. It is intensive research and development unit
3. It is traditionally located close to the raw materials
4. Absence of massive statements, factories, storage etc.

**Options :**

485584133021. 1  
485584133022. 2  
485584133023. 3  
485584133024. 4

**Question Number : 142 Question Id : 48558433257 Question Type : MCQ Option Shuffling : No Is Question Mandatory : No Calculator : None Response Time : N.A Think Time : N.A Minimum Instruction Time : 0 Correct Marks : 5 Wrong Marks : 1**

**Question Key Details :**



Key	Value
Comprehension	Comp1

Read the passage and answer 5 questions that follow:

High technology, or simply high-tech, is the latest generation of manufacturing activities. It is best understood as the application of intensive research and development (R and D) efforts leading to the manufacture of products of an advanced scientific and engineering character. Professional (white collar) workers make up a large share of the total workforce. These highly skilled specialists greatly outnumber the actual production (blue collar) workers. Robotics on the assembly line, computer-aided design (CAD) and manufacturing, electronic controls of smelting and refining processes, and the constant development of new chemical and pharmaceutical products are notable examples of a high-tech industry.

Neatly spaced, low, modern, dispersed, office-plant-lab buildings rather than massive assembly structures, factories and storage areas mark the-tech industrial landscape. Planned business parks for high-tech start-ups have become part of regional and local development schemes.

High-tech industries which are regionally centred, self-sustained and highly specialised are called technopolies. The Silicon Valley near San Francisco and Silicon Forest near Seattle are examples of technopolies.

Manufacturing contributes significantly to the world economy. Iron and steel, textiles, automobiles, petrochemicals and electronics are some of the world's most important manufacturing industries.

Which one of the following are considered white collar workers?

1. Skilled specialist
2. Engineers
3. Farmers
4. Skilled workers

**Options :**

- 485584133025. 1
- 485584133026. 2
- 485584133027. 3
- 485584133028. 4

**Question Number : 143 Question Id : 48558433258 Question Type : MCQ Option Shuffling : No Is Question Mandatory : No Calculator : None Response Time : N.A Think Time : N.A Minimum Instruction Time : 0**

**Correct Marks : 5 Wrong Marks : 1**

**Question Key Details :**

Key	Value
Comprehension	Comp1

Read the passage and answer 5 questions that follow:

High technology, or simply high-tech, is the latest generation of manufacturing activities. It is best understood as the application of intensive research and development (R and D) efforts leading to the manufacture of products of an advanced scientific and engineering character. Professional (white collar) workers make up a large share of the total workforce. These highly skilled specialists greatly outnumber the actual production (blue collar) workers. Robotics on the assembly line, computer-aided design (CAD) and manufacturing, electronic controls of smelting and refining processes, and the constant development of new chemical and pharmaceutical products are notable examples of a high-tech industry.

Neatly spaced, low, modern, dispersed, office-plant-lab buildings rather than massive assembly structures, factories and storage areas mark the-tech industrial landscape. Planned business parks for high-tech start-ups have become part of regional and local development schemes.

High-tech industries which are regionally concentrated, self-sustained and highly specialised are called technopolies. The Silicon Valley near San Francisco and Silicon Forest near Seattle are examples of technopolies.

Manufacturing contributes significantly to the world economy. Iron and steel, textiles, automobiles, petrochemicals and electronics are some of the world's most important manufacturing industries.

Which of the following are an example of high-technology industry?

1. Textile production
2. Robotics
3. CAD
4. Pharmaceutical

**Options :**

- 485584133029. 1
- 485584133030. 2
- 485584133031. 3
- 485584133032. 4

**Question Number : 144 Question Id : 48558433259 Question Type : MCQ Option Shuffling : No Is Question Mandatory : No Calculator : None Response Time : N.A Think Time : N.A Minimum Instruction Time : 0**

**Correct Marks : 5 Wrong Marks : 1**

**Question Key Details :**

Key	Value
Comprehension	Comp1

Read the passage and answer 5 questions that follow:

High technology, or simply high-tech, is the latest generation of manufacturing activities. It is best understood as the application of intensive research and development (R and D) efforts leading to the manufacture of products of an advanced scientific and engineering character. Professional (white collar) workers make up a large share of the total workforce. These highly skilled specialists greatly outnumber the actual production (blue collar) workers. Robotics on the assembly line, computer-aided design (CAD) and manufacturing, electronic controls of smelting and refining processes, and the constant development of new chemical and pharmaceutical products are notable examples of a high-tech industry.

Neatly spaced, low, modern, dispersed, office-plant-lab buildings rather than massive assembly structures, factories and storage areas mark the-tech industrial landscape. Planned business parks for high-tech start-ups have become part of regional and local development schemes.

High-tech industries which are regionally concentrated, self-sustained and highly specialised are called technopolies. The Silicon Valley near San Francisco and Silicon Forest near Seattle are examples of technopolies.

Manufacturing contributes significantly to the world economy. Iron and steel, textiles, automobiles, petrochemicals and electronics are some of the world's most important manufacturing industries.

Which of the following term is used for the usually concentrated, self-sustained and specialised industry?

1. Iron & steel Industry
2. Textile industry
3. Automobile industry
4. Technopolies

**Options :**

- 485584133033. 1
- 485584133034. 2
- 485584133035. 3
- 485584133036. 4

**Question Number : 145 Question Id : 48558433260 Question Type : MCQ Option Shuffling : No Is Question Mandatory : No Calculator : None Response Time : N.A Think Time : N.A Minimum Instruction Time : 0**

**Correct Marks : 5 Wrong Marks : 1**

**Question Key Details :**

Key	Value
Comprehension	Comp1

Read the passage and answer 5 questions that follow:

High technology, or simply high-tech, is the latest generation of manufacturing activities. It is best understood as the application of intensive research and development (R and D) efforts leading to the manufacture of products of an advanced scientific and engineering character. Professional (white collar) workers make up a large share of the total workforce. These highly skilled specialists greatly outnumber the actual production (blue collar) workers. Robotics on the assembly line, computer-aided design (CAD) and manufacturing, electronic controls of smelting and refining processes, and the constant development of new chemical and pharmaceutical products are notable examples of a high-tech industry.

Neatly spaced, low, modern, dispersed, office-plant-lab buildings rather than massive assembly structures, factories and storage areas mark the-tech industrial landscape. Planned business parks for high-tech start-ups have become part of regional and local development schemes.

High-tech industries which are regionally concentrated, self-sustained and highly specialised are called technopolies. The Silicon Valley near San Francisco and Silicon Forest near Seattle are examples of techonopolies.

Manufacturing contributes significantly to the world economy. Iron and steel, textiles, automobiles, petrochemicals and electronics are some of the world's most important manufacturing industries.

Which of the following workers are greatly affected by High-Tech Industry?

1. White collar workers
2. Blue collar workers
3. Red collar workers
4. Grey collar workers

**Options :**

- 485584133037. 1
- 485584133038. 2
- 485584133039. 3
- 485584133040. 4

**Sub-Section Number :** 3  
**Sub-Section Id :** 4855842427  
**Question Shuffling Allowed :** No  
**Is Section Default? :** null

**Question Number :** 146 **Question Id :** 48558433261 **Question Type :** MCQ **Option Shuffling :** No **Is Question Mandatory :** No **Calculator :** None **Response Time :** N.A **Think Time :** N.A **Minimum Instruction Time :** 0

**Correct Marks :** 5 **Wrong Marks :** 1

**Question Key Details :**

Key	Value
Comprehension	Comp2

Read the passage and answer 5 questions that follow:

Watershed management basically refers to efficient management and conservation of surface and groundwater resources. It involves prevention of runoff and shortage and recharge of groundwater through various methods like percolation tanks. Recharge wells. Etc. however. In broad sense watershed management includes conservation. Regeneration and judicious use of all resources- natural (like land water plants and animals) and human with in a watershed. Watershed management aims at bringing about balance between natural resources on the one hand and society on the other. The success of watershed development largely depends upon community participation.

The Central and State Government have initiated many watershed development and management programmes in the country. some of these are being implemented by non-government organisations also. Haryali is a watershed development project sponsored by the Central Government which aims at enabling the rural populations to conserve water for drinking, irrigation, fisheries and afforestation. The Project is being executed by Gram Panchayats with people's participation. Neeru-Meeru (water and you) programme (in Andhra Pradesh) and Arvary Pani Sansad (in Alwar Rajasthan) have taken up constructions of various water-harvesting structures such as percolation tanks. Dug out ponds (Johand). Check dams. etc... through people's participation. Tamil Nadu has made water harvesting structures in the houses compulsory. No building can be constructed without making structures for water harvesting.

watershed development projects in some areas have been successful in rejuvenating environment and economy. However. There are only a few success stories. In majority of cases. The programme is still in its nascent stage. There is a need to generate awareness regarding benefits of watershed development and management among people in the country, and through this integrated water resource management approach water availability can be ensured on sustainable basis.

What is watershed?

1. It is efficient management and conservation of surface and groundwater resources.
2. It is a system of equitable distribution of water in an area.
3. It is a method of storing the canal water.
4. It is harvesting of natural streams.

**Options :**

- 485584133041. 1
- 485584133042. 2
- 485584133043. 3
- 485584133044. 4

**Question Number : 147 Question Id : 48558433262 Question Type : MCQ Option Shuffling : No Is Question Mandatory : No Calculator : None Response Time : N.A Think Time : N.A Minimum Instruction Time : 0**

**Correct Marks : 5 Wrong Marks : 1**

**Question Key Details :**

Key	Value
Comprehension	Comp2

Read the passage and answer 5 questions that follow:

Watershed management basically refers to efficient management and conservation of surface and groundwater resources. It involves prevention of runoff and shortage and recharge of groundwater through various methods like percolation tanks. Recharge wells. Etc. however. In broad sense watershed management includes conservation. Regeneration and judicious use of all resources- natural (like land water plants and animals) and human with in a watershed. Watershed management aims at bringing about balance between natural resources on the one hand and society on the other. The success of watershed development largely depends upon community participation.

The Central and State Government have initiated many watershed development and management programmes in the country. some of these are being implemented by non-government organisations also. Haryali is a watershed development project sponsored by the Central Government which aims at enabling the rural populations to conserve water for drinking, irrigation, fisheries and afforestation. The Project is being executed by Gram Panchayats with people's participation. Neeru-Meeru (water and you) programme (in Andhra Pradesh) and Arvary Pani Sansad (in Alwar Rajasthan) have taken up constructions of various water-harvesting structures such as percolation tanks. Dug out ponds (Johand). Check dams. etc... through people's participation. Tamil Nadu has made water harvesting structures in the houses compulsory. No building can be constructed without making structures for water harvesting.

watershed development projects in some areas have been successful in rejuvenating environment and economy. However. There are only a few success stories. In majority of cases. The programme is still in its nascent stage. There is a need to generate awareness regarding benefits of watershed development and management among people in the country, and through this integrated water resource management approach water availability can be ensured on sustainable basis.

Out of which one is the success story of watershed management in India?

1. Ahmednagar, Maharashtra
2. Gandhi Nagar, Gujarat
3. Alwar, Rajasthan
4. Andhra Pradesh

**Options :**

- 485584133045. 1
- 485584133046. 2
- 485584133047. 3
- 485584133048. 4

**Question Number : 148 Question Id : 48558433263 Question Type : MCQ Option Shuffling : No Is Question Mandatory : No Calculator : None Response Time : N.A Think Time : N.A Minimum Instruction Time : 0**

**Correct Marks : 5 Wrong Marks : 1**

**Question Key Details :**

Key	Value
Comprehension	Comp2

Read the passage and answer 5 questions that follow:

Watershed management basically refers to efficient management and conservation of surface and groundwater resources. It involves prevention of runoff and shortage and recharge of groundwater through various methods like percolation tanks. Recharge wells. Etc. however. In broad sense watershed management includes conservation. Regeneration and judicious use of all resources- natural (like land water plants and animals) and human with in a watershed. Watershed management aims at bringing about balance between natural resources on the one hand and society on the other. The success of watershed development largely depends upon community participation.

The Central and State Government have initiated many watershed development and management programmes in the country. some of these are being implemented by non-government organisations also. Haryali is a watershed development project sponsored by the Central Government which aims at enabling the rural populations to conserve water for drinking, irrigation, fisheries and afforestation. The Project is being executed by Gram Panchayats with people's participation. Neeru-Meeru (water and you) programme (in Andhra Pradesh) and Arvary Pani Sansad (in Alwar Rajasthan) have taken up constructions of various water-harvesting structures such as percolation tanks. Dug out ponds (Johand). Check dams. etc... through people's participation. Tamil Nadu has made water harvesting structures in the houses compulsory. No building can be constructed without making structures for water harvesting.

watershed development projects in some areas have been successful in rejuvenating environment and economy. However. There are only a few success stories. In majority of cases. The programme is still in its nascent stage. There is a need to generate awareness regarding benefits of watershed development and management among people in the country, and through this integrated water resource management approach water availability can be ensured on sustainable basis.

Watershed Management largely depends upon the \_\_\_\_\_ .

1. Central and state Government
2. Community Participation
3. Management Programs
4. Development Projects

**Options :**

- 485584133049. 1
- 485584133050. 2
- 485584133051. 3
- 485584133052. 4

**Question Number : 149 Question Id : 48558433264 Question Type : MCQ Option Shuffling : No Is Question Mandatory : No Calculator : None Response Time : N.A Think Time : N.A Minimum Instruction Time : 0**

**Correct Marks : 5 Wrong Marks : 1**

**Question Key Details :**

Key	Value
Comprehension	Comp2

Read the passage and answer 5 questions that follow:

Watershed management basically refers to efficient management and conservation of surface and groundwater resources. It involves prevention of runoff and shortage and recharge of groundwater through various methods like percolation tanks. Recharge wells. Etc. however. In broad sense watershed management includes conservation. Regeneration and judicious use of all resources- natural (like land water plants and animals) and human with in a watershed. Watershed management aims at bringing about balance between natural resources on the one hand and society on the other. The success of watershed development largely depends upon community participation.

The Central and State Government have initiated many watershed development and management programmes in the country. some of these are being implemented by non-government organisations also. Haryali is a watershed development project sponsored by the Central Government which aims at enabling the rural populations to conserve water for drinking, irrigation, fisheries and afforestation. The Project is being executed by Gram Panchayats with people's participation. Neeru-Meeru (water and you) programme (in Andhra Pradesh) and Arvary Pani Sansad (in Alwar Rajasthan) have taken up constructions of various water-harvesting structures such as percolation tanks. Dug out ponds (Johand). Check dams. etc... through people's participation. Tamil Nadu has made water harvesting structures in the houses compulsory. No building can be constructed without making structures for water harvesting.

watershed development projects in some areas have been successful in rejuvenating environment and economy. However. There are only a few success stories. In majority of cases. The programme is still in its nascent stage. There is a need to generate awareness regarding benefits of watershed development and management among people in the country, and through this integrated water resource management approach water availability can be ensured on sustainable basis.

Which watershed development project is Sponsored by Central Government?

1. Arvary Pani Sansad
2. Compulsory water harvesting structures in all houses
3. Neeru-Meeru
4. Haryali

**Options :**

- 485584133053. 1
- 485584133054. 2
- 485584133055. 3
- 485584133056. 4

**Question Number : 150 Question Id : 48558433265 Question Type : MCQ Option Shuffling : No Is Question Mandatory : No Calculator : None Response Time : N.A Think Time : N.A Minimum Instruction Time : 0**

**Correct Marks : 5 Wrong Marks : 1**

**Question Key Details :**

Key	Value
Comprehension	Comp2



Read the passage and answer 5 questions that follow:

Watershed management basically refers to efficient management and conservation of surface and groundwater resources. It involves prevention of runoff and shortage and recharge of groundwater through various methods like percolation tanks. Recharge wells. Etc. however. In broad sense watershed management includes conservation. Regeneration and judicious use of all resources- natural (like land water plants and animals) and human with in a watershed. Watershed management aims at bringing about balance between natural resources on the one hand and society on the other. The success of watershed development largely depends upon community participation.

The Central and State Government have initiated many watershed development and management programmes in the country. some of these are being implemented by non-government organisations also. Haryali is a watershed development project sponsored by the Central Government which aims at enabling the rural populations to conserve water for drinking, irrigation, fisheries and afforestation. The Project is being executed by Gram Panchayats with people's participation. Neeru-Meeru (water and you) programme (in Andhra Pradesh) and Arvary Pani Sansad (in Alwar Rajasthan) have taken up constructions of various water-harvesting structures such as percolation tanks. Dug out ponds (Johand). Check dams. etc... through people's participation. Tamil Nadu has made water harvesting structures in the houses compulsory. No building can be constructed without making structures for water harvesting.

watershed development projects in some areas have been successful in rejuvenating environment and economy. However. There are only a few success stories. In majority of cases. The programme is still in its nascent stage. There is a need to generate awareness regarding benefits of watershed development and management among people in the country, and through this integrated water resource management approach water availability can be ensured on sustainable basis.

Which of the following watershed management programme was started in Rajasthan?

1. Arvary Pani Sansad
2. Neeru-Meeru
3. Haryali
4. Water harvesting

**Options :**

485584133057. 1  
485584133058. 2  
485584133059. 3  
485584133060. 4

## History

<b>Group Number :</b>	8
<b>Group Id :</b>	485584746
<b>Group Maximum Duration :</b>	45
<b>Group Minimum Duration :</b>	45
<b>Show Attended Group? :</b>	No
<b>Edit Attended Group? :</b>	No
<b>Break time :</b>	0
<b>Group Marks :</b>	200
<b>Is this Group for Examiner? :</b>	No

Examiner permission :  
Show Progress Bar? :

Cant View  
No

## History

Section Id : 485584860  
Section Number : 1  
Section type : Online  
Mandatory or Optional : Mandatory  
Number of Questions : 50  
Number of Questions to be attempted : 40  
Section Marks : 200  
Enable Mark as Answered Mark for Review and Clear Response : Yes  
Maximum Instruction Time : 0  
Sub-Section Number : 1  
Sub-Section Id : 4855842428  
Question Shuffling Allowed : Yes  
Is Section Default? : null

Question Number : 151 Question Id : 48558433316 Question Type : MCQ Option Shuffling : No Is Question Mandatory :  
No Calculator : None Response Time : N.A Think Time : N.A Minimum Instruction Time : 0

Correct Marks : 5 Wrong Marks : 1

Question Key Details :

Key	Value
Comprehension	MCQ

Who amongst the following was the engraver of Prabhavati Gupta's inscription?

1. Banabhatta
2. Chakradasa
3. Nagapiya
4. Sovanika

Options :

485584133261. 1  
485584133262. 2  
485584133263. 3  
485584133264. 4

Question Number : 152 Question Id : 48558433317 Question Type : MCQ Option Shuffling : No Is Question Mandatory :  
No Calculator : None Response Time : N.A Think Time : N.A Minimum Instruction Time : 0

Correct Marks : 5 Wrong Marks : 1

Question Key Details :

Key	Value
Comprehension	MCQ

How many 'Mahajanapadas' are there in total?

1. Fourteen
2. Six
3. Sixteen
4. Twelve

**Options :**

485584133265. 1  
485584133266. 2  
485584133267. 3  
485584133268. 4

**Question Number : 153 Question Id : 48558433318 Question Type : MCQ Option Shuffling : No Is Question Mandatory : No Calculator : None Response Time : N.A Think Time : N.A Minimum Instruction Time : 0**

**Correct Marks : 5 Wrong Marks : 1**

**Question Key Details :**

Key	Value
Comprehension	MCQ

The Sangam texts mention categories of people living in the villages. Identify the categories:

- A. Masattuvan
- B. Setthis
- C. Uzhavar
- D. Adimai
- E. Vellalar

Choose the **correct** answer from the options given below:

1. A, B, C only
2. B, C, D only
3. C, D, E only
4. A, C, E only

**Options :**

485584133269. 1  
485584133270. 2  
485584133271. 3  
485584133272. 4

**Question Number : 154 Question Id : 48558433319 Question Type : MCQ Option Shuffling : No Is Question Mandatory : No Calculator : None Response Time : N.A Think Time : N.A Minimum Instruction Time : 0**

**Correct Marks : 5 Wrong Marks : 1**

**Question Key Details :**

Key	Value
Comprehension	MCQ

Identify the writer of the play titled 'Mrichchhakatika'?

1. Vasistha
2. Shudraka
3. Gotama
4. Panini

**Options :**

485584133273. 1  
485584133274. 2  
485584133275. 3  
485584133276. 4

**Question Number : 155 Question Id : 48558433320 Question Type : MCQ Option Shuffling : No Is Question Mandatory : No Calculator : None Response Time : N.A Think Time : N.A Minimum Instruction Time : 0**

**Correct Marks : 5 Wrong Marks : 1**

**Question Key Details :**

Key	Value
Comprehension	MCQ

Abdur Razzaq Samarqandi gave important description of which city?

1. Delhi
2. Vijayanagara
3. Sumtra
4. Magadha

**Options :**

485584133277. 1  
485584133278. 2  
485584133279. 3  
485584133280. 4

**Question Number : 156 Question Id : 48558433321 Question Type : MCQ Option Shuffling : No Is Question Mandatory : No Calculator : None Response Time : N.A Think Time : N.A Minimum Instruction Time : 0**

**Correct Marks : 5 Wrong Marks : 1**

**Question Key Details :**

Key	Value
Comprehension	MCQ

From Malabar he went to Maldives, where he stayed for 10 months as qazi, but eventually decided to go to Sri Lanka. He took a ship to Sumatra and from there another ship to Chinese town Zaytun. He travelled extensively in China. Who was he?

1. Ibn Battuta
2. Al-Biruni
3. Bernier
4. Hiuen-Tsang

**Options :**

485584133281. 1  
485584133282. 2  
485584133283. 3  
485584133284. 4

**Question Number : 157 Question Id : 48558433322 Question Type : MCQ Option Shuffling : No Is Question Mandatory : No Calculator : None Response Time : N.A Think Time : N.A Minimum Instruction Time : 0**

**Correct Marks : 5 Wrong Marks : 1**

**Question Key Details :**

Key	Value
Comprehension	MCQ

Mirabai, the best-known women poet of the bhakti tradition was Rajput princess from:-

1. Mewar
2. Marwar
3. Gujarat
4. Delhi

**Options :**

485584133285. 1  
485584133286. 2  
485584133287. 3  
485584133288. 4

**Question Number : 158 Question Id : 48558433323 Question Type : MCQ Option Shuffling : No Is Question Mandatory : No Calculator : None Response Time : N.A Think Time : N.A Minimum Instruction Time : 0**

**Correct Marks : 5 Wrong Marks : 1**

**Question Key Details :**

Key	Value
Comprehension	MCQ

Which among the following religious teachers are associated with Punjab?

- A. Tukaram
- B. Ganj Bakhsh
- C. Miyan Mir
- D. Fariduddin Ganj-i-Shakar
- E. Raidas

Choose the **correct** answer from the options given below:

- 1. A, B, C only
- 2. B, C, D only
- 3. C, D, E only
- 4. A, C, E only

**Options :**

- 485584133289. 1
- 485584133290. 2
- 485584133291. 3
- 485584133292. 4

**Question Number : 159 Question Id : 48558433324 Question Type : MCQ Option Shuffling : No Is Question Mandatory : No Calculator : None Response Time : N.A Think Time : N.A Minimum Instruction Time : 0**

**Correct Marks : 5 Wrong Marks : 1**

**Question Key Details :**

Key	Value
Comprehension	MCQ

Match List I with List II:-

LIST I (Terms)		LIST II (Meaning)	
A.	Zimmi	I.	Tomb Shrine
B.	Jizya	II.	Protected
C.	Dargah	III.	Pilgrimage
D.	Ziyarat	IV.	A religious tax paid by Hindus

Choose the **correct** answer from the options given below:

- 1. A-I, B-II, C-IV, D-III
- 2. A-II, B-IV, C-III, D-I
- 3. A-IV, B-III, C-II, D-I
- 4. A-II, B-IV, C-I, D-III

**Options :**

- 485584133293. 1
- 485584133294. 2
- 485584133295. 3
- 485584133296. 4

**Question Number : 160 Question Id : 48558433325 Question Type : MCQ Option Shuffling : No Is Question Mandatory : No Calculator : None Response Time : N.A Think Time : N.A Minimum Instruction Time : 0**

**Correct Marks : 5 Wrong Marks : 1**

**Question Key Details :**

Key	Value
Comprehension	MCQ

Which of the following is considered as one of the most spectacular temple in the Vijayanagara Empire?

1. Vitthala Temple
2. Virupaksha Temple
3. Hazara Rama Temple
4. Brihadishvara Temple

**Options :**

- 485584133297. 1
- 485584133298. 2
- 485584133299. 3
- 485584133300. 4

**Question Number : 161 Question Id : 48558433326 Question Type : MCQ Option Shuffling : No Is Question Mandatory : No Calculator : None Response Time : N.A Think Time : N.A Minimum Instruction Time : 0**

**Correct Marks : 5 Wrong Marks : 1**

**Question Key Details :**

Key	Value
Comprehension	MCQ

In which year did Krishnadeva Raya defeat the sultan of Bijapur?

1. 1529
2. 1520
3. 1514
4. 1512

**Options :**

- 485584133301. 1
- 485584133302. 2
- 485584133303. 3
- 485584133304. 4

**Question Number : 162 Question Id : 48558433327 Question Type : MCQ Option Shuffling : No Is Question Mandatory : No Calculator : None Response Time : N.A Think Time : N.A Minimum Instruction Time : 0**

**Correct Marks : 5 Wrong Marks : 1**

**Question Key Details :**

Key	Value
Comprehension	MCQ

Arrange the establishment of the following kingdoms in a chronological order:

- A. Emergence of the Sultanates of Ahmadnagar, Bijapur and Berar
- B. Establishment of Bahmani Kingdom.
- C. Establishment of Vijayanagara Empire.
- D. Establishment of the Sultanate of Golconda.
- E. Conquest of Goa by the Portuguese

Choose the **correct** answer from the options given below:

- 1. D, E, A, B, C
- 2. B, C, D, E, A
- 3. A, B, C, D, E
- 4. C, B, A, E, D

**Options :**

- 485584133305. 1
- 485584133306. 2
- 485584133307. 3
- 485584133308. 4

**Question Number : 163 Question Id : 48558433328 Question Type : MCQ Option Shuffling : No Is Question Mandatory : No Calculator : None Response Time : N.A Think Time : N.A Minimum Instruction Time : 0**

**Correct Marks : 5 Wrong Marks : 1**

**Question Key Details :**

Key	Value
Comprehension	MCQ

From the statements given below, choose the **correct** ones about the fortifications and roads in Vijayanagara Empire.

- A. Paes, an ambassador from Persia, mentioned seven lines of forts.
- B. Razzaq said that cementing was used in the walls of the fort.
- C. There was no fortification around the agricultural fields.
- D. The fort was entered through well-guarded gates linking the city to the major road.
- E. The arch on the gateway led to the fortified settlement.

Choose the **correct** answer from the options given below:

- 1. E, A only
- 2. D, E only
- 3. C, D only
- 4. B, A only

**Options :**

- 485584133309. 1
- 485584133310. 2
- 485584133311. 3
- 485584133312. 4



**Question Number : 164 Question Id : 48558433329 Question Type : MCQ Option Shuffling : No Is Question Mandatory : No Calculator : None Response Time : N.A Think Time : N.A Minimum Instruction Time : 0**

**Correct Marks : 5 Wrong Marks : 1**

**Question Key Details :**

Key	Value
Comprehension	MCQ

Match List I with List II:-

LIST I (Foreign Traveler)		LIST II (Country)	
A.	Nicolo de Conti	I.	Russia
B.	Domingo Paes	II.	Persia
C.	Nikitin	III.	Italy
D.	Abdur Razzaq	IV.	Portugal

Choose the correct answer from the options given below:

1. A-III, B-IV, C-I, D-II
2. A-I, B-II, C-III, D-IV
3. A-IV, B-I, C-III, D-II
4. A-II, B-III, C-I, D-IV

**Options :**

- 485584133313. 1
- 485584133314. 2
- 485584133315. 3
- 485584133316. 4

**Question Number : 165 Question Id : 48558433330 Question Type : MCQ Option Shuffling : No Is Question Mandatory : No Calculator : None Response Time : N.A Think Time : N.A Minimum Instruction Time : 0**

**Correct Marks : 5 Wrong Marks : 1**

**Question Key Details :**

Key	Value
Comprehension	MCQ

Arrange these landmarks of the Mughal Empire in a chronological order.

- A. Reign of Akbar
- B. Reign of Humayun
- C. Reign of Shah Jahan
- D. Reign of Jahangir
- E. Reign of Aurangzeb

Choose the **correct** answer from the options given below:

- 1. A, B, C, D, E
- 2. B, A, D, C, E
- 3. E, D, B, C, A
- 4. B, C, A, D, E

**Options :**

- 485584133317. 1
- 485584133318. 2
- 485584133319. 3
- 485584133320. 4

**Question Number : 166 Question Id : 48558433331 Question Type : MCQ Option Shuffling : No Is Question Mandatory : No Calculator : None Response Time : N.A Think Time : N.A Minimum Instruction Time : 0**

**Correct Marks : 5 Wrong Marks : 1**

**Question Key Details :**

Key	Value
Comprehension	MCQ

In a painting titled "Jahangir's dream", the Mughal Emperor Jahangir is portrayed as embracing:-

- 1. Shah of Iraq
- 2. Abbasid Caliph
- 3. Shah of Iran
- 4. Safavid Shah Abbas

**Options :**

- 485584133321. 1
- 485584133322. 2
- 485584133323. 3
- 485584133324. 4

**Question Number : 167 Question Id : 48558433332 Question Type : MCQ Option Shuffling : No Is Question Mandatory : No Calculator : None Response Time : N.A Think Time : N.A Minimum Instruction Time : 0**

**Correct Marks : 5 Wrong Marks : 1**

**Question Key Details :**

Key	Value
Comprehension	MCQ

Akbar's quest for religious knowledge led to inter-faith debates in the Ibadat Khana at:-

1. Agra Fort
2. Red Fort of Shahjahanabad
3. Dargah of Nizamuddin Aulia
4. Fatehpur Sikri

**Options :**

485584133325. 1  
485584133326. 2  
485584133327. 3  
485584133328. 4

**Question Number : 168 Question Id : 48558433333 Question Type : MCQ Option Shuffling : No Is Question Mandatory : No Calculator : None Response Time : N.A Think Time : N.A Minimum Instruction Time : 0**

**Correct Marks : 5 Wrong Marks : 1**

**Question Key Details :**

Key	Value
Comprehension	MCQ

Match List I with List II:-

LIST I		LIST II	
A.	Gulbadan Begum	I.	Alamgir Nama
B.	Abu'l Fzal	II.	Humayun Nama
C.	Muhammad Kazim	III.	Akbar Nama
D.	Abdul Hamid Lahori	IV.	Badshah Nama

Choose the **correct** answer from the options given below:

1. A-III, B-II, C-I, D-IV
2. A-I, B-II, C-IV, D-III
3. A-II, B-III, C-I, D-IV
4. A-IV, B-III, C-II, D-I

**Options :**

485584133329. 1  
485584133330. 2  
485584133331. 3  
485584133332. 4

**Question Number : 169 Question Id : 48558433334 Question Type : MCQ Option Shuffling : No Is Question Mandatory : No Calculator : None Response Time : N.A Think Time : N.A Minimum Instruction Time : 0**

**Correct Marks : 5 Wrong Marks : 1**

**Question Key Details :**

Key	Value
Comprehension	MCQ

The areas under Ryotwari Settlements were surveyed after how many years?

1. 10 years
2. 20 years
3. 30 years
4. 40 years

**Options :**

485584133333. 1  
485584133334. 2  
485584133335. 3  
485584133336. 4

**Question Number : 170 Question Id : 48558433335 Question Type : MCQ Option Shuffling : No Is Question Mandatory : No Calculator : None Response Time : N.A Think Time : N.A Minimum Instruction Time : 0**

**Correct Marks : 5 Wrong Marks : 1**

**Question Key Details :**

Key	Value
Comprehension	MCQ

Where was first British colonial rule established in India?

1. Madras Presidency
2. Bombay Presidency
3. Bengal Subah
4. Mysore State

**Options :**

485584133337. 1  
485584133338. 2  
485584133339. 3  
485584133340. 4

**Question Number : 171 Question Id : 48558433336 Question Type : MCQ Option Shuffling : No Is Question Mandatory : No Calculator : None Response Time : N.A Think Time : N.A Minimum Instruction Time : 0**

**Correct Marks : 5 Wrong Marks : 1**

**Question Key Details :**

Key	Value
Comprehension	MCQ

The revenue system that was introduced in Bombay Deccan came to be known as:-

1. Permanent Settlement
2. Ryotwari Settlement
3. Mahalwari Settlement
4. Taluqudari Settlement

**Options :**

485584133341. 1  
485584133342. 2  
485584133343. 3  
485584133344. 4

**Question Number : 172 Question Id : 48558433337 Question Type : MCQ Option Shuffling : No Is Question Mandatory : No Calculator : None Response Time : N.A Think Time : N.A Minimum Instruction Time : 0**

**Correct Marks : 5 Wrong Marks : 1**

**Question Key Details :**

Key	Value
Comprehension	MCQ

Which of the following are **correct** about Deccan riots?

- A. The movement began at Supa, a village in Poona.
- B. Supa was an inaccessible forest area with no markets.
- C. On 12 may 1875, ryots attacked the shopkeepers.
- D. Ryots set fire to the houses of British and protected the houses of Sahukars and moneylenders.
- E. Account books were not destroyed by the ryots rather preserved by them.

Choose the **correct** answer from the options given below:

1. D and E only
2. A and B only
3. A and C only
4. B and D only

**Options :**

485584133345. 1  
485584133346. 2  
485584133347. 3  
485584133348. 4

**Question Number : 173 Question Id : 48558433338 Question Type : MCQ Option Shuffling : No Is Question Mandatory : No Calculator : None Response Time : N.A Think Time : N.A Minimum Instruction Time : 0**

**Correct Marks : 5 Wrong Marks : 1**

**Question Key Details :**

Key	Value
Comprehension	MCQ

Match List I with List II

LIST I		LIST II	
A.	British takeover of Deccan	I.	1757
B.	The British become rulers of Bengal	II.	1911
C.	Plague spreads to major cities	III.	1818
D.	Transfer of capital from Calcutta to Delhi	IV.	1896

Choose the **correct** answer from the options given below:

1. A-IV, B-III, C-II, D-I
2. A-I, B-II, C-III, D-IV
3. A-II, B-IV, C-I, D-III
4. A-III, B-I, C-IV, D-III

**Options :**

485584133349. 1  
485584133350. 2  
485584133351. 3  
485584133352. 4

**Question Number : 174 Question Id : 48558433339 Question Type : MCQ Option Shuffling : No Is Question Mandatory : No Calculator : None Response Time : N.A Think Time : N.A Minimum Instruction Time : 0**

**Correct Marks : 5 Wrong Marks : 1**

**Question Key Details :**

Key	Value
Comprehension	MCQ

When was Awadh formally annexed by the British?

1. 1801
2. 1842
3. 1851
4. 1856

**Options :**

485584133353. 1  
485584133354. 2  
485584133355. 3  
485584133356. 4

**Question Number : 175 Question Id : 48558433340 Question Type : MCQ Option Shuffling : No Is Question Mandatory : No Calculator : None Response Time : N.A Think Time : N.A Minimum Instruction Time : 0**

**Correct Marks : 5 Wrong Marks : 1**

**Question Key Details :**

Key	Value
Comprehension	MCQ

Who said, "A cherry that will drop into our mouth one day" in the context of Awadh?

1. Lord Dalhousie
2. Lord Wellesley
3. Lord Canning
4. Lord Curzon

**Options :**

485584133357. 1  
485584133358. 2  
485584133359. 3  
485584133360. 4

**Question Number : 176 Question Id : 48558433341 Question Type : MCQ Option Shuffling : No Is Question Mandatory : No Calculator : None Response Time : N.A Think Time : N.A Minimum Instruction Time : 0**

**Correct Marks : 5 Wrong Marks : 1**

**Question Key Details :**

Key	Value
Comprehension	MCQ

Find out the name of the painter who painted "In Memoriam" From the option given below:

1. Thomas Jones Barker
2. Joseph Noel Paton
3. Miss Wheeler
4. Henry Lawrence

**Options :**

485584133361. 1  
485584133362. 2  
485584133363. 3  
485584133364. 4

**Question Number : 177 Question Id : 48558433342 Question Type : MCQ Option Shuffling : No Is Question Mandatory : No Calculator : None Response Time : N.A Think Time : N.A Minimum Instruction Time : 0**

**Correct Marks : 5 Wrong Marks : 1**

**Question Key Details :**

Key	Value
Comprehension	MCQ

Under the leadership of which Governor General the custom of Sati was legally abolished?

1. Lord Curzon
2. Lord William Bentinck
3. Lord Dalhousie
4. Lord Wellesley

**Options :**

485584133365. 1  
485584133366. 2  
485584133367. 3  
485584133368. 4

**Question Number : 178 Question Id : 48558433343 Question Type : MCQ Option Shuffling : No Is Question Mandatory : No Calculator : None Response Time : N.A Think Time : N.A Minimum Instruction Time : 0**

**Correct Marks : 5 Wrong Marks : 1**

**Question Key Details :**

Key	Value
Comprehension	MCQ

Arrange the following in chronological order according to their date of occurrence.

- A. Sepoy Mutiny in Meerut
- B. Summary settlement in Awadh
- C. Rising in Lucknow
- D. Rani of Jhansi killed in battle

Choose the **correct** answer from the options given below:

1. B, C, A, D
2. A, C, D, B
3. B, A, C, D
4. C, B, A, D

**Options :**

485584133369. 1  
485584133370. 2  
485584133371. 3  
485584133372. 4

**Question Number : 179 Question Id : 48558433344 Question Type : MCQ Option Shuffling : No Is Question Mandatory : No Calculator : None Response Time : N.A Think Time : N.A Minimum Instruction Time : 0**

**Correct Marks : 5 Wrong Marks : 1**

**Question Key Details :**

Key	Value
Comprehension	MCQ



Arrange the following European trading companies in the chronological order in context of their settlement in India.

- A. Dutch
- B. British
- C. French
- D. Portuguese

Choose the **correct** answer from the options given below:

- 1. A, B, C, D
- 2. D, A, C, B
- 3. D, A, B, C
- 4. C, A, B, D

**Options :**

- 485584133373. 1
- 485584133374. 2
- 485584133375. 3
- 485584133376. 4

**Question Number : 180 Question Id : 48558433345 Question Type : MCQ Option Shuffling : No Is Question Mandatory : No Calculator : None Response Time : N.A Think Time : N.A Minimum Instruction Time : 0**

**Correct Marks : 5 Wrong Marks : 1**

**Question Key Details :**

Key	Value
Comprehension	MCQ

Which of the following statement is **incorrect**?

- 1. Lal, Bal and Pal were the leaders of Swadeshi Movement.
- 2. Extremist leaders are known for their moderate politics.
- 3. Moderates preferred gradual and persuasive approach.
- 4. Gopal Krishna Gokhale was a Moderate leader.

**Options :**

- 485584133377. 1
- 485584133378. 2
- 485584133379. 3
- 485584133380. 4

**Question Number : 181 Question Id : 48558433346 Question Type : MCQ Option Shuffling : No Is Question Mandatory : No Calculator : None Response Time : N.A Think Time : N.A Minimum Instruction Time : 0**

**Correct Marks : 5 Wrong Marks : 1**

**Question Key Details :**

Key	Value
Comprehension	MCQ

Through 'Salt March', Gandhi took the national movement to every household. This tactical wisdom was to bring larger participation of \_\_\_\_\_ in the freedom struggle.

1. Dalits
2. Menial workers
3. Peasants
4. Women

**Options :**

- 485584133381. 1
- 485584133382. 2
- 485584133383. 3
- 485584133384. 4

**Question Number : 182 Question Id : 48558433347 Question Type : MCQ Option Shuffling : No Is Question Mandatory : No Calculator : None Response Time : N.A Think Time : N.A Minimum Instruction Time : 0**

**Correct Marks : 5 Wrong Marks : 1**

**Question Key Details :**

Key	Value
Comprehension	MCQ

In which year did Gandhi left British India for South Africa as a lawyer?

1. 1881
2. 1893
3. 1894
4. 1915

**Options :**

- 485584133385. 1
- 485584133386. 2
- 485584133387. 3
- 485584133388. 4

**Question Number : 183 Question Id : 48558433348 Question Type : MCQ Option Shuffling : No Is Question Mandatory : No Calculator : None Response Time : N.A Think Time : N.A Minimum Instruction Time : 0**

**Correct Marks : 5 Wrong Marks : 1**

**Question Key Details :**

Key	Value
Comprehension	MCQ

Due to which event the British instituted 'censorship of the press' and detention without trial. It was later known as the Rowlatt Act?

1. The Great Depression
2. World War I
3. World War II
4. Balkan Wars

**Options :**

485584133389. 1  
485584133390. 2  
485584133391. 3  
485584133392. 4

**Question Number : 184 Question Id : 48558433349 Question Type : MCQ Option Shuffling : No Is Question Mandatory : No Calculator : None Response Time : N.A Think Time : N.A Minimum Instruction Time : 0**

**Correct Marks : 5 Wrong Marks : 1**

**Question Key Details :**

Key	Value
Comprehension	MCQ

Match List I with List II

LIST I (Non-Cooperation Social Groups)		LIST II (Participation in Non-Cooperation)	
A.	The working class	I.	Refused to carry loads for colonial officers
B.	Hill tribes in northern Andhra	II.	Did not pay taxes
C.	Peasants in Kumaun	III.	Violated the forest laws
D.	Farmers in Awadh	IV.	Strike

Choose the correct answer from the options given below:

1. A-IV, B-III, C-I, D-II
2. A-I, B-III, C-II, D-IV
3. A-I, B-II, C-III, D-IV
4. A-IV, B-I, C-III, D-II

**Options :**

485584133393. 1  
485584133394. 2  
485584133395. 3  
485584133396. 4

**Question Number : 185 Question Id : 48558433350 Question Type : MCQ Option Shuffling : No Is Question Mandatory : No Calculator : None Response Time : N.A Think Time : N.A Minimum Instruction Time : 0**

**Correct Marks : 5 Wrong Marks : 1**

**Question Key Details :**

Key	Value
-----	-------

Arrange the following in a chronological order.

- A. Resolution at Lahore, demanding a measure of autonomy for the Muslim-majority areas.
- B. Violence breaks out between Hindus and Muslims in Calcutta.
- C. The name Pakistan is coined by a Punjabi Muslim student at Cambridge, Choudhary Rehmat Ali.
- D. The Muslim League declares "Direct Action" for winning Pakistan.
- E. Mohammad Iqbal speaks of the need for an autonomous North West Indian Muslim state.

Choose the **correct** answer from the options given below:

1. A, C, E, B, D
2. C, E, B, D, A
3. E, C, A, D, B
4. B, C, D, A, E

**Options :**

485584133397. 1  
 485584133398. 2  
 485584133399. 3  
 485584133400. 4

**Question Number : 186 Question Id : 48558433351 Question Type : MCQ Option Shuffling : No Is Question Mandatory : No Calculator : None Response Time : N.A Think Time : N.A Minimum Instruction Time : 0**

**Correct Marks : 5 Wrong Marks : 1**

**Question Key Details :**

Key	Value
Comprehension	MCQ

"The British element is gone, but they have left the mischief behind" Who said this against the separate electorates?

1. Jawaharlal Nehru
2. Vallabhbhai Patel
3. B. Pocker Bahadur
4. R. V. Dhulekar

**Options :**

485584133401. 1  
 485584133402. 2  
 485584133403. 3  
 485584133404. 4

**Question Number : 187 Question Id : 48558433352 Question Type : MCQ Option Shuffling : No Is Question Mandatory : No Calculator : None Response Time : N.A Think Time : N.A Minimum Instruction Time : 0**

**Correct Marks : 5 Wrong Marks : 1**

**Question Key Details :**

Key	Value
-----	-------

Which of the following language was proposed by Mahatma Gandhi as the national language as it could be spoken by the common people?

1. Arabic
2. Sanskrit
3. Hindustani
4. Persian

**Options :**

485584133405. 1  
485584133406. 2  
485584133407. 3  
485584133408. 4

**Question Number : 188 Question Id : 48558433353 Question Type : MCQ Option Shuffling : No Is Question Mandatory : No Calculator : None Response Time : N.A Think Time : N.A Minimum Instruction Time : 0**

**Correct Marks : 5 Wrong Marks : 1**

**Question Key Details :**

Key	Value
Comprehension	MCQ

Which articles provide the Fundamental Rights of "Cultural and Education Rights"

1. Articles 25-26
2. Articles 27-28
3. Articles 29-30
4. Articles 14-16

**Options :**

485584133409. 1  
485584133410. 2  
485584133411. 3  
485584133412. 4

**Question Number : 189 Question Id : 48558433354 Question Type : MCQ Option Shuffling : No Is Question Mandatory : No Calculator : None Response Time : N.A Think Time : N.A Minimum Instruction Time : 0**

**Correct Marks : 5 Wrong Marks : 1**

**Question Key Details :**

Key	Value
Comprehension	MCQ

Who said that separate electorate is a "Poison that has entered the body politics of our country"?

1. S. N. Mukherjee
2. Vallabhbhai Patel
3. Rajendra Prasad
4. Jawaharlal Nehru

**Options :**

485584133413. 1  
485584133414. 2  
485584133415. 3  
485584133416. 4

**Question Number : 190 Question Id : 48558433355 Question Type : MCQ Option Shuffling : No Is Question Mandatory : No Calculator : None Response Time : N.A Think Time : N.A Minimum Instruction Time : 0**

**Correct Marks : 5 Wrong Marks : 1**

**Question Key Details :**

Key	Value
Comprehension	MCQ

Arrange the following in a chronological order.

- A. Labour Government comes to Power in Britain.
- B. Cabinet Mission's Announcement.
- C. Muslim League announces Direct Action Day.
- D. General Election of India.

Choose the **correct** answer from the options given below:

1. A, B, C, D
2. A, D, B, C
3. C, A, B, D
4. B, A, C, D

**Options :**

485584133417. 1  
485584133418. 2  
485584133419. 3  
485584133420. 4

**Sub-Section Number :** 2  
**Sub-Section Id :** 4855842429  
**Question Shuffling Allowed :** No  
**Is Section Default? :** null

**Question Number : 191 Question Id : 48558433356 Question Type : MCQ Option Shuffling : No Is Question Mandatory : No Calculator : None Response Time : N.A Think Time : N.A Minimum Instruction Time : 0**

**Correct Marks : 5 Wrong Marks : 1**

**Question Key Details :**

Key	Value
Comprehension	Comp1

**Read the passage and answer the questions:**

Mesopotamian texts datable to the third millennium BCE refer to copper coming from a region called Magan. Interestingly enough copper found at Mesopotamian sites also contains traces of nickel. Other archaeological finds suggestive of long-distance contacts include Harappan seals, weights, dice and beads. Mesopotamian texts mention contact with regions named Dilmun, Magan and Meluhha. They mention the products from Meluhha: Carnelian, lapis lazuli, copper, gold, and varieties of wood. A Mesopotamian myth says of Meluhha: "May your bird be the haja-bird, may its call be heard in the royal palace."

"Meluhha" in the Mesopotamian texts refers to:-

1. Oman
2. Bahrain
3. Iran
4. Harappa

**Options :**

485584133421. 1  
485584133422. 2  
485584133423. 3  
485584133424. 4

**Question Number : 192 Question Id : 48558433357 Question Type : MCQ Option Shuffling : No Is Question Mandatory : No Calculator : None Response Time : N.A Think Time : N.A Minimum Instruction Time : 0**

**Correct Marks : 5 Wrong Marks : 1**

**Question Key Details :**

Key	Value
Comprehension	Comp1

**Read the passage and answer the questions:**

Mesopotamian texts datable to the third millennium BCE refer to copper coming from a region called Magan. Interestingly enough copper found at Mesopotamian sites also contains traces of nickel. Other archaeological finds suggestive of long-distance contacts include Harappan seals, weights, dice and beads. Mesopotamian texts mention contact with regions named Dilmun, Magan and Meluhha. They mention the products from Meluhha: Carnelian, lapis lazuli, copper, gold, and varieties of wood. A Mesopotamian myth says of Meluhha: "May your bird be the haja-bird, may its call be heard in the royal palace."

According to some archaeologists, the haja-bird mentioned in the Mesopotamian texts was:-

1. Peacock
2. Eagle
3. Koel
4. Sparrow

**Options :**

485584133425. 1  
485584133426. 2  
485584133427. 3  
485584133428. 4

**Question Number : 193 Question Id : 48558433358 Question Type : MCQ Option Shuffling : No Is Question Mandatory : No Calculator : None Response Time : N.A Think Time : N.A Minimum Instruction Time : 0**

**Correct Marks : 5 Wrong Marks : 1**

**Question Key Details :**

Key	Value
Comprehension	Comp1

**Read the passage and answer the questions:**

Mesopotamian texts datable to the third millennium BCE refer to copper coming from a region called Magan. Interestingly enough copper found at Mesopotamian sites also contains traces of nickel. Other archaeological finds suggestive of long-distance contacts include Harappan seals, weights, dice and beads. Mesopotamian texts mention contact with regions named Dilmun, Magan and Meluhha. They mention the products from Meluhha: Carnelian, lapis lazuli, copper, gold, and varieties of wood. A Mesopotamian myth says of Meluhha: "May your bird be the haja-bird, may its call be heard in the royal palace."

What was the Harappan seal made of?

1. Chert
2. Carnelian
3. Steatite
4. Lapis Lazuli

**Options :**

485584133429. 1  
485584133430. 2  
485584133431. 3  
485584133432. 4

**Question Number : 194 Question Id : 48558433359 Question Type : MCQ Option Shuffling : No Is Question Mandatory : No Calculator : None Response Time : N.A Think Time : N.A Minimum Instruction Time : 0**

**Correct Marks : 5 Wrong Marks : 1**

**Question Key Details :**

Key	Value
-----	-------



**Read the passage and answer the questions:**

Mesopotamian texts datable to the third millennium BCE refer to copper coming from a region called Magan. Interestingly enough copper found at Mesopotamian sites also contains traces of nickel. Other archaeological finds suggestive of long-distance contacts include Harappan seals, weights, dice and beads. Mesopotamian texts mention contact with regions named Dilmun, Magan and Meluhha. They mention the products from Meluhha: Carnelian, lapis lazuli, copper, gold, and varieties of wood. A Mesopotamian myth says of Meluhha: "May your bird be the haja-bird, may its call be heard in the royal palace."

Specialised drills have been found at which of the following Harappan sites?

- A. Nageshwar
- B. Dholavira
- C. Lothal
- D. Balakot
- E. Chanhudaro

Choose the **correct** answer from the options given below:

- 1. C, D, E only
- 2. B, C, E only
- 3. A, B, D only
- 4. A, B, C only

**Options :**

- 485584133433. 1
- 485584133434. 2
- 485584133435. 3
- 485584133436. 4

**Question Number : 195 Question Id : 48558433360 Question Type : MCQ Option Shuffling : No Is Question Mandatory : No Calculator : None Response Time : N.A Think Time : N.A Minimum Instruction Time : 0**

**Correct Marks : 5 Wrong Marks : 1**

**Question Key Details :**

Key	Value
Comprehension	Compl

**Read the passage and answer the questions:**

Mesopotamian texts datable to the third millennium BCE refer to copper coming from a region called Magan. Interestingly enough copper found at Mesopotamian sites also contains traces of nickel. Other archaeological finds suggestive of long-distance contacts include Harappan seals, weights, dice and beads. Mesopotamian texts mention contact with regions named Dilmun, Magan and Meluhha. They mention the products from Meluhha: Carnelian, lapis lazuli, copper, gold, and varieties of wood. A Mesopotamian myth says of Meluhha: "May your bird be the haja-bird, may its call be heard in the royal palace."

Match List I with List II:-

LIST I		LIST II	
A.	Nageshwar	I.	Lapis Lazuli
B.	Shortughai	II.	Copper
C.	Lothal	III.	Shells
D.	Khetri	IV.	Carnelian

Choose the **correct** answer from the options given below:

1. A-IV, B-II, C-III, D-I
2. A-II, B-IV, C-I, D-III
3. A-III, B-I, C-IV, D-II
4. A-I, B-III, C-II, D-IV

**Options :**

485584133437. 1  
485584133438. 2  
485584133439. 3  
485584133440. 4

**Sub-Section Number :**

3

**Sub-Section Id :**

4855842430

**Question Shuffling Allowed :**

No

**Is Section Default? :**

null

**Question Number : 196 Question Id : 48558433361 Question Type : MCQ Option Shuffling : No Is Question Mandatory : No Calculator : None Response Time : N.A Think Time : N.A Minimum Instruction Time : 0**

**Correct Marks : 5 Wrong Marks : 1**

**Question Key Details :**

Key	Value
Comprehension	Comp2

Read the passage and answer following five questions:

Here are verses from the Rigveda invoking Agni, the god of fire, often identified with the sacrificial fire, into which offerings were made so as to reach the other deities. "Bring, O strong one, this sacrifice of ours to the gods, O wise one, as a liberal giver. Bestow on us, O priest, abundant food. Agni, obtain, by sacrificing, mighty wealth for us". Verses such as these were composed in a special kind of Sanskrit, known as Vedic Sanskrit. They were taught orally to men belonging to priestly families.

The 'Rigveda' consists of \_\_\_\_\_ in praise of a variety of deities

1. Stories
2. Plays
3. Scripts
4. Hymns

**Options :**

- 485584133441. 1
- 485584133442. 2
- 485584133443. 3
- 485584133444. 4

**Question Number : 197 Question Id : 48558433362 Question Type : MCQ Option Shuffling : No Is Question Mandatory : No Calculator : None Response Time : N.A Think Time : N.A Minimum Instruction Time : 0**

**Correct Marks : 5 Wrong Marks : 1**

**Question Key Details :**

Key	Value
Comprehension	Comp2

Read the passage and answer following five questions:

Here are verses from the Rigveda invoking Agni, the god of fire, often identified with the sacrificial fire, into which offerings were made so as to reach the other deities. "Bring, O strong one, this sacrifice of ours to the gods, O wise one, as a liberal giver. Bestow on us, O priest, abundant food. Agni, obtain, by sacrificing, mighty wealth for us". Verses such as these were composed in a special kind of Sanskrit, known as Vedic Sanskrit. They were taught orally to men belonging to priestly families.

Identify among the following another deity widely mentioned in the Rigveda.

- 1. Shiva
- 2. Indra
- 3. Vishnu
- 4. Krishna

**Options :**

- 485584133445. 1
- 485584133446. 2
- 485584133447. 3
- 485584133448. 4

**Question Number : 198 Question Id : 48558433363 Question Type : MCQ Option Shuffling : No Is Question Mandatory : No Calculator : None Response Time : N.A Think Time : N.A Minimum Instruction Time : 0**

**Correct Marks : 5 Wrong Marks : 1**

**Question Key Details :**

Key	Value
Comprehension	Comp2

Read the passage and answer following five questions:

Here are verses from the Rigveda invoking Agni, the god of fire, often identified with the sacrificial fire, into which offerings were made so as to reach the other deities. "Bring, O strong one, this sacrifice of ours to the gods, O wise one, as a liberal giver. Bestow on us, O priest, abundant food. Agni, obtain, by sacrificing, mighty wealth for us". Verses such as these were composed in a special kind of Sanskrit, known as Vedic Sanskrit. They were taught orally to men belonging to priestly families.

Identify the timeline of Rigveda compilation.

1. C.1500 and 1000 BCE
2. C.1200 and 1000 BCE
3. C.1100 and 1200 BCE
4. C.1000 and 1500 BCE

**Options :**

485584133449. 1  
485584133450. 2  
485584133451. 3  
485584133452. 4

**Question Number : 199 Question Id : 48558433364 Question Type : MCQ Option Shuffling : No Is Question Mandatory : No Calculator : None Response Time : N.A Think Time : N.A Minimum Instruction Time : 0**

**Correct Marks : 5 Wrong Marks : 1**

**Question Key Details :**

Key	Value
Comprehension	Comp2

Read the passage and answer following five questions:

Here are verses from the Rigveda invoking Agni, the god of fire, often identified with the sacrificial fire, into which offerings were made so as to reach the other deities. "Bring, O strong one, this sacrifice of ours to the gods, O wise one, as a liberal giver. Bestow on us, O priest, abundant food. Agni, obtain, by sacrificing, mighty wealth for us". Verses such as these were composed in a special kind of Sanskrit, known as Vedic Sanskrit. They were taught orally to men belonging to priestly families.

Which language was used to compose texts like Rigveda and Upanishads?

1. Hindavi
2. Pali
3. Sanskrit
4. Prakrit

**Options :**

485584133453. 1  
485584133454. 2  
485584133455. 3  
485584133456. 4

**Question Number : 200 Question Id : 48558433365 Question Type : MCQ Option Shuffling : No Is Question Mandatory : No Calculator : None Response Time : N.A Think Time : N.A Minimum Instruction Time : 0**

**Correct Marks : 5 Wrong Marks : 1**

**Question Key Details :**

Key	Value
Comprehension	Comp2

Read the passage and answer following five questions:

Here are verses from the Rigveda invoking Agni, the god of fire, often identified with the sacrificial fire, into which offerings were made so as to reach the other deities. "Bring, O strong one, this sacrifice of ours to the gods, O wise one, as a liberal giver. Bestow on us, O priest, abundant food. Agni, obtain, by sacrificing, mighty wealth for us". Verses such as these were composed in a special kind of Sanskrit, known as Vedic Sanskrit. They were taught orally to men belonging to priestly families.

Identify the 'sacrifices' mentioned in Rigveda.

- A. Samsara
- B. Rajasuya
- C. Kutagarashala
- D. Soma
- E. Ashvamedha

Choose the **correct** answer from the options given below:

- 1. A, B only
- 2. B, D only
- 3. B, E only
- 4. C, E only

**Options :**

- 485584133457. 1
- 485584133458. 2
- 485584133459. 3
- 485584133460. 4

## Legal Studies

Group Number :	9
Group Id :	485584747
Group Maximum Duration :	45
Group Minimum Duration :	45
Show Attended Group? :	No
Edit Attended Group? :	No
Break time :	0
Group Marks :	200
Is this Group for Examiner? :	No
Examiner permission :	Cant View
Show Progress Bar? :	No

## Legal Studies

Section Id :	485584861
Section Number :	1
Section type :	Online

**Mandatory or Optional :** Mandatory  
**Number of Questions :** 50  
**Number of Questions to be attempted :** 40  
**Section Marks :** 200  
**Enable Mark as Answered Mark for Review and Clear Response :** Yes  
**Maximum Instruction Time :** 0  
**Sub-Section Number :** 1  
**Sub-Section Id :** 4855842431  
**Question Shuffling Allowed :** Yes  
**Is Section Default? :** null

**Question Number : 201 Question Id : 48558433836 Question Type : MCQ Option Shuffling : No Is Question Mandatory : No Calculator : None Response Time : N.A Think Time : N.A Minimum Instruction Time : 0**

**Correct Marks : 5 Wrong Marks : 1**

**Question Key Details :**

Key	Value
Comprehension	MCQ

India's first Attorney General was

1. M.C. Setalvad
2. Justice P. Sathasivam
3. Justice V. Ramaswamy
4. Mukul Rohtagi

**Options :**

485584135341. 1  
485584135342. 2  
485584135343. 3  
485584135344. 4

**Question Number : 201 Question Id : 48558433836 Question Type : MCQ Option Shuffling : No Is Question Mandatory : No Calculator : None Response Time : N.A Think Time : N.A Minimum Instruction Time : 0**

**Correct Marks : 5 Wrong Marks : 1**

**Question Key Details :**

Key	Value
Comprehension	MCQ

ഇന്ത്യയുടെ ആദ്യത്തെ അറ്റോർണി ജനറൽ ആരായിരുന്നു ?

1. എം.സി. സെറ്റൽവാദ്
2. ജസ്റ്റിസ് പി. സദാശിവം
3. ജസ്റ്റിസ് വി. രാമസ്വാമി
4. മുകുൾ റോഹ്തഗി

**Options :**

485584135341. 1  
485584135342. 2

485584135343. 3

485584135344. 4

**Question Number : 202 Question Id : 48558433837 Question Type : MCQ Option Shuffling : No Is Question Mandatory : No Calculator : None Response Time : N.A Think Time : N.A Minimum Instruction Time : 0**

**Correct Marks : 5 Wrong Marks : 1**

**Question Key Details :**

Key	Value
Comprehension	MCQ

What is enshrined in Article 217 of the Indian Constitution?

1. The procedure for appointment of judges of Supreme Court
2. The procedure for appointment of judges of High Court
3. The procedure for appointment of judges of lower Judiciary
4. The procedure of removal of Judges

**Options :**

485584135345. 1

485584135346. 2

485584135347. 3

485584135348. 4

**Question Number : 202 Question Id : 48558433837 Question Type : MCQ Option Shuffling : No Is Question Mandatory : No Calculator : None Response Time : N.A Think Time : N.A Minimum Instruction Time : 0**

**Correct Marks : 5 Wrong Marks : 1**

**Question Key Details :**

Key	Value
Comprehension	MCQ

ഇന്ത്യൻ ഭരണഘടനയുടെ അനുചേദം 217 ൽ ഉൾപ്പെടുത്തിയിരിക്കുന്നതെന്ത് ?

1. സുപ്രീം കോടതിയിലെ ജഡ്ജിമാരെ നിയമിക്കുന്നതിനുള്ള നടപടിക്രമങ്ങൾ
2. ഹൈക്കോടതി ജഡ്ജിമാരെ നിയമനത്തിനുള്ള നടപടിക്രമങ്ങൾ
3. കീഴ് കോടതികളിലെ ജഡ്ജിമാരുടെ നിയമനത്തിനുള്ള നടപടിക്രമങ്ങൾ
4. ജഡ്ജിമാരെ സ്ഥാനത്ത് നിന്ന് നീക്കം ചെയ്യുന്നതിനുള്ള നടപടി ക്രമം

**Options :**

485584135345. 1

485584135346. 2

485584135347. 3

485584135348. 4

**Question Number : 203 Question Id : 48558433838 Question Type : MCQ Option Shuffling : No Is Question Mandatory : No Calculator : None Response Time : N.A Think Time : N.A Minimum Instruction Time : 0**

**Correct Marks : 5 Wrong Marks : 1**

**Question Key Details :**

Key	Value
-----	-------

Comprehension	MCQ
---------------	-----

The doctrine of *Locus Standi* means

1. Right to respect the court
2. Right to appear before the court
3. Right to stand with the court
4. Right to seek Justice

**Options :**

485584135349. 1  
 485584135350. 2  
 485584135351. 3  
 485584135352. 4

**Question Number : 203 Question Id : 48558433838 Question Type : MCQ Option Shuffling : No Is Question Mandatory : No Calculator : None Response Time : N.A Think Time : N.A Minimum Instruction Time : 0**

**Correct Marks : 5 Wrong Marks : 1**

**Question Key Details :**

Key	Value
Comprehension	MCQ

'ലോക്കസ് സ്റ്റാന്റിഡി' എന്ന തത്വത്തിന്റെ അർത്ഥം

1. കോടതിയെ ബഹുമാനിക്കാനുള്ള അവകാശം
2. കോടതിക്ക് മുമ്പിൽ ഹാജരാകാനുള്ള അവകാശം
3. കോടതിയുടെ കൂടെ നിൽക്കാനുള്ള അവകാശം
4. നീതി തേടുന്നതിനുള്ള അവകാശം

**Options :**

485584135349. 1  
 485584135350. 2  
 485584135351. 3  
 485584135352. 4

**Question Number : 204 Question Id : 48558433839 Question Type : MCQ Option Shuffling : No Is Question Mandatory : No Calculator : None Response Time : N.A Think Time : N.A Minimum Instruction Time : 0**

**Correct Marks : 5 Wrong Marks : 1**

**Question Key Details :**

Key	Value
Comprehension	MCQ



Which Article of the Constitution of India says that the advisory jurisdiction of Supreme Court can be sought by President of India?

- 1. Article 140
- 2. Article 141
- 3. Article 142
- 4. Article 143

**Options :**

- 485584135353. 1
- 485584135354. 2
- 485584135355. 3
- 485584135356. 4

**Question Number : 204 Question Id : 48558433839 Question Type : MCQ Option Shuffling : No Is Question Mandatory : No Calculator : None Response Time : N.A Think Time : N.A Minimum Instruction Time : 0**

**Correct Marks : 5 Wrong Marks : 1**

**Question Key Details :**

Key	Value
Comprehension	MCQ

ഇന്ത്യൻ ഭരണഘടനയുടെ ഏത് അനുച്ഛേദമനുസരിച്ചാണ് ഇന്ത്യൻ രാഷ്ട്രപതി സുപ്രീം കോടതിയിൽ നിന്ന് ഉപദേശം സ്വീകരിക്കുന്നത് ?

- 1. അനുച്ഛേദം 148
- 2. അനുച്ഛേദം 141
- 3. അനുച്ഛേദം 142
- 4. അനുച്ഛേദം 143

**Options :**

- 485584135353. 1
- 485584135354. 2
- 485584135355. 3
- 485584135356. 4

**Question Number : 205 Question Id : 48558433840 Question Type : MCQ Option Shuffling : No Is Question Mandatory : No Calculator : None Response Time : N.A Think Time : N.A Minimum Instruction Time : 0**

**Correct Marks : 5 Wrong Marks : 1**

**Question Key Details :**

Key	Value
Comprehension	MCQ

With respect to separation of power, which of the following are true?

- A. It requires non-Harmonious relation between the legislative, Executive and Judiciary
- B. Federal Government has law making powers different than that of states or provinces
- C. It allows for liberty as it avoids concentration of powers in one branch.
- D. It promotes efficiency
- E. It facilitates checks and balances of each branch in state.

Choose the correct answer from the options given below:

- 1. B, C, D, E only
- 2. B, C, D only
- 3. C, D, E only
- 4. A, C, B only

**Options :**

- 485584135357. 1
- 485584135358. 2
- 485584135359. 3
- 485584135360. 4

**Question Number : 205 Question Id : 48558433840 Question Type : MCQ Option Shuffling : No Is Question Mandatory : No Calculator : None Response Time : N.A Think Time : N.A Minimum Instruction Time : 0**

**Correct Marks : 5 Wrong Marks : 1**

**Question Key Details :**

Key	Value
Comprehension	MCQ

അധികാര വിഭജനവുമായി ബന്ധപ്പെട്ട് താഴെ കൊടുത്തിരിക്കുന്നവയിൽ ശരിയായ പ്രസ്താവനകൾ എത്രയെണ്ണം ?

- A. ലെജിസ്ലേറ്റീവ്, എക്സിക്യൂട്ടീവ്, ജുഡീഷ്യറി എന്നിവ ഒരേ സ്വഭാവം ഉള്ളതാകാൻ പാടില്ല.
- B. ഫെഡറൽ ഗവൺമെന്റിന്റെ നിയമനിർമ്മാണ അധികാരം, സംസ്ഥാനങ്ങളുടെയും പ്രവേശ്യകളുടെയും നിയമനിർമ്മാണ അധികാരങ്ങളിൽ നിന്ന് വ്യത്യസ്തമാണ്.
- C. അധികാരം ഏതെങ്കിലും ഒരു ശാഖയിൽ കേന്ദ്രീകരിക്കുന്നത് തടയുന്നതിനാൽ, അത് സ്വാതന്ത്ര്യം ഉറപ്പ് വരുത്തുന്നു.
- D. ഇത് കാര്യക്ഷമത ഉറപ്പ് വരുത്തുന്നു.
- E. ഇത് രാഷ്ട്രത്തിന്റെ ഓരോ ശാഖയുടെയും അധികാരത്തിനുമേൽ നിയന്ത്രണം ഉറപ്പ് വരുത്തുന്നു.

തന്നിരിക്കുന്നവയിൽ നിന്ന് ശരിയായ ഉത്തരം തിരഞ്ഞെടുക്കുക:

- 1. B, C, D, E only
- 2. B, C, D only
- 3. C, D, E only
- 4. A, C, B only

**Options :**

- 485584135357. 1
- 485584135358. 2
- 485584135359. 3
- 485584135360. 4

**Question Number : 206 Question Id : 48558433841 Question Type : MCQ Option Shuffling : No Is Question Mandatory : No Calculator : None Response Time : N.A Think Time : N.A Minimum Instruction Time : 0**

**Correct Marks : 5 Wrong Marks : 1**

**Question Key Details :**

Key	Value
Comprehension	MCQ

Arrange the courts of civil Judges in a district in ascending order.

- A. First class Judicial Magistrate court
- B. Second Class Judicial Magistrate court
- C. Munsiff Courts
- D. Chief Judicial Magistrate Court

Choose the correct answer from the options given below:

- 1. B, D, A, C
- 2. C, B, A, D
- 3. A, B, C, D
- 4. D, A, C, B

**Options :**

- 485584135361. 1
- 485584135362. 2
- 485584135363. 3
- 485584135364. 4

**Question Number : 206 Question Id : 48558433841 Question Type : MCQ Option Shuffling : No Is Question Mandatory : No Calculator : None Response Time : N.A Think Time : N.A Minimum Instruction Time : 0**

**Correct Marks : 5 Wrong Marks : 1**

**Question Key Details :**

Key	Value
Comprehension	MCQ

ജില്ലാ തല സിവിൽ കോടതികളെ ആരോഹണക്രമത്തിൽ ചിട്ടപ്പെടുത്തുക.  
(ചെറുതിൽ നിന്ന് വലുതിലേക്ക്)

- A. ഫസ്റ്റ് ക്ലാസ് ജുഡീഷ്യൽ മജിസ്ട്രേറ്റ് കോടതി
- B. സെക്കന്റ് ക്ലാസ് ജുഡീഷ്യൽ മജിസ്ട്രേറ്റ് കോടതി
- C. മുൻസിഫ് കോടതികൾ
- D. ചീഫ് ജുഡീഷ്യൽ മജിസ്ട്രേറ്റ് കോടതി

താഴെ നൽകിയിരിക്കുന്നവയിൽ നിന്നും ശരിയായ ഉത്തരം തിരഞ്ഞെടുക്കുക

- 1. B, D, A, C
- 2. C, B, A, D
- 3. A, B, C, D
- 4. D, A, C, B

**Options :**

- 485584135361. 1
- 485584135362. 2
- 485584135363. 3
- 485584135364. 4

**Question Number : 207 Question Id : 48558433842 Question Type : MCQ Option Shuffling : No Is Question Mandatory : No Calculator : None Response Time : N.A Think Time : N.A Minimum Instruction Time : 0**

**Correct Marks : 5 Wrong Marks : 1**

**Question Key Details :**

Key	Value
Comprehension	MCQ

Arrange the stages of investigations initiated by police officer for the collection of evidence in order of their occurrence:

- A. Collection of evidence
- B. Ascertaining facts and circumstances
- C. Proceeding to spot
- D. Discovery and arrest of suspected offender
- E. Investigation ends in police report to magistrate

Choose the correct answer from the options given below:

- 1. C, D, B, A,E
- 2. C, B, D, A, E
- 3. B, E, A, C, D
- 4. A, B, C, D, E

**Options :**

- 485584135365. 1
- 485584135366. 2
- 485584135367. 3
- 485584135368. 4

**Question Number : 207 Question Id : 48558433842 Question Type : MCQ Option Shuffling : No Is Question Mandatory : No Calculator : None Response Time : N.A Think Time : N.A Minimum Instruction Time : 0**

**Correct Marks : 5 Wrong Marks : 1**

**Question Key Details :**

Key	Value
Comprehension	MCQ

അന്വേഷണത്തിന്റെ ഭാഗമായി ഒരു പോലീസ് ഉദ്യോഗസ്ഥൻ നടത്തുന്ന തെളിവ് ശേഖരണത്തിന്റെ വിവിധ ഘട്ടങ്ങളെ ക്രമാനുഗതമായി ചിട്ടപ്പെടുത്തുക.

- A. തെളിവ് ശേഖരണം
- B. വസ്തുക്കളും സാഹചര്യങ്ങളും സ്ഥിരീകരിക്കൽ
- C. സംഭവസ്ഥലം സന്ദർശിക്കൽ
- D. സംശയിക്കപ്പെടുന്ന കുറ്റവാളിയെ കണ്ടുപിടിക്കുകയും അറസ്റ്റ് ചെയ്യുകയും ചെയ്യുന്നു.
- E. അന്വേഷണ റിപ്പോർട്ട് മജിസ്ട്രേറ്റിന് സമർപ്പിക്കുന്നു.

താഴെ നൽകിയിരിക്കുന്നവയിൽ നിന്നും ശരിയായ ഉത്തരം തിരഞ്ഞെടുക്കുക

- 1. C, D, B, A,E
- 2. C, B, D, A, E
- 3. B, E, A, C, D
- 4. A, B, C, D, E

**Options :**

- 485584135365. 1
- 485584135366. 2
- 485584135367. 3

**Question Number : 208 Question Id : 48558433843 Question Type : MCQ Option Shuffling : No Is Question Mandatory : No Calculator : None Response Time : N.A Think Time : N.A Minimum Instruction Time : 0**

**Correct Marks : 5 Wrong Marks : 1**

**Question Key Details :**

Key	Value
Comprehension	MCQ

A women in sheer destitute and impoverishment attempted to kill herself after failing in all ways to arrange for food for her starving children. She did it knowingly therefore she will be held guilty by the Court because:

1. the act was done under compulsion
2. the act was done out of necessity
3. the act was done due to insanity
4. the act was done intentionally

**Options :**

- 485584135369. 1
- 485584135370. 2
- 485584135371. 3
- 485584135372. 4

**Question Number : 208 Question Id : 48558433843 Question Type : MCQ Option Shuffling : No Is Question Mandatory : No Calculator : None Response Time : N.A Think Time : N.A Minimum Instruction Time : 0**

**Correct Marks : 5 Wrong Marks : 1**

**Question Key Details :**

Key	Value
Comprehension	MCQ

പട്ടിണി കിടക്കുന്ന മക്കൾക്ക് ഭക്ഷണം എത്തിച്ച് കൊടുക്കാനുള്ള എല്ലാ ശ്രമങ്ങളും പരാജയപ്പെട്ടതിനെ തുടർന്ന്, തീർത്തും നിർധനയും നിരാശ്രയയുമായ ഒരു സ്ത്രീ ആത്മഹത്യ ചെയ്യാൻ ശ്രമിക്കുന്നു. ഇത് അവൾ ബോധപൂർവ്വം ചെയ്തതാണ്. താഴെ കൊടുത്തിരിക്കുന്നവയിൽ ഏത് കാരണം അടിസ്ഥാനമാക്കിയാണ് കോടതി അവരെ കുറ്റക്കാരിയായി കണക്കാക്കുക ?

1. ഈ പ്രവൃത്തി നിർബന്ധത്തെ തുടർന്ന് ചെയ്തതാണ്
2. ഈ പ്രവൃത്തി അത്യാവശ്യമായ സാഹചര്യം മൂലം ചെയ്തതാണ്
3. ബുദ്ധി ഭ്രമം മൂലം ചെയ്ത പ്രവൃത്തിയാണ്
4. ബോധപൂർവ്വം ചെയ്ത പ്രവൃത്തിയാണ്

**Options :**

- 485584135369. 1
- 485584135370. 2
- 485584135371. 3
- 485584135372. 4

Question Number : 209 Question Id : 48558433844 Question Type : MCQ Option Shuffling : No Is Question Mandatory : No Calculator : None Response Time : N.A Think Time : N.A Minimum Instruction Time : 0

Correct Marks : 5 Wrong Marks : 1

Question Key Details :

Key	Value
Comprehension	MCQ

Crime committed by structured groups typically involving the distribution of illegal goods and services to others is known as-

1. White Collar crime
2. Crime against groups
3. Organised Crimes
4. Gang War

Options :

- 485584135373. 1
- 485584135374. 2
- 485584135375. 3
- 485584135376. 4

Question Number : 209 Question Id : 48558433844 Question Type : MCQ Option Shuffling : No Is Question Mandatory : No Calculator : None Response Time : N.A Think Time : N.A Minimum Instruction Time : 0

Correct Marks : 5 Wrong Marks : 1

Question Key Details :

Key	Value
Comprehension	MCQ

നിയമ വിരുദ്ധ വസ്തുക്കളും സേവനങ്ങളും ആളുകൾക്ക് വിതരണം ചെയ്യുന്ന സംഘടിത സംഘങ്ങൾ നടത്തുന്ന കുറ്റം അറിയപ്പെടുന്നത് :-

1. വൈറ്റ് കോളർ ക്രൈം
2. സംഘങ്ങൾക്കെതിരെയുള്ള കുറ്റം
3. സംഘടിത കുറ്റങ്ങൾ
4. ഗാങ് യുദ്ധം

Options :

- 485584135373. 1
- 485584135374. 2
- 485584135375. 3
- 485584135376. 4

Question Number : 210 Question Id : 48558433845 Question Type : MCQ Option Shuffling : No Is Question Mandatory : No Calculator : None Response Time : N.A Think Time : N.A Minimum Instruction Time : 0

Correct Marks : 5 Wrong Marks : 1

Question Key Details :

Key	Value
Comprehension	MCQ

If the intention is to reap fruits from the trees, the trees would be considered

1. Immovable property
2. Movable property
3. General property
4. Intangible property

**Options :**

485584135377. 1  
485584135378. 2  
485584135379. 3  
485584135380. 4

**Question Number : 210 Question Id : 48558433845 Question Type : MCQ Option Shuffling : No Is Question Mandatory : No Calculator : None Response Time : N.A Think Time : N.A Minimum Instruction Time : 0**

**Correct Marks : 5 Wrong Marks : 1**

**Question Key Details :**

Key	Value
Comprehension	MCQ

മരങ്ങളിൽ നിന്ന് വിളവ് ശേഖരിക്കലാണ് ലക്ഷ്യമെങ്കിൽ, നിയമം മരങ്ങളെ കണക്കാക്കുന്നത് :-

1. സ്ഥാവര സ്വത്ത്
2. സ്വത്ത്
3. പൊതുസ്വത്ത്
4. അമൂർത്ത സ്വത്ത്

**Options :**

485584135377. 1  
485584135378. 2  
485584135379. 3  
485584135380. 4

**Question Number : 211 Question Id : 48558433846 Question Type : MCQ Option Shuffling : No Is Question Mandatory : No Calculator : None Response Time : N.A Think Time : N.A Minimum Instruction Time : 0**

**Correct Marks : 5 Wrong Marks : 1**

**Question Key Details :**

Key	Value
Comprehension	MCQ



A sells his garden as well as house through the instrument to B. whereas B, wants to retain only the house and wants to cancel the garden. B has to retain the garden if he wants the house or cancel the whole transaction.' Which of the following doctrine is applicable in this instance

1. Doctrine of lis Pendens
2. Doctrine of Suitability
3. Doctrine of Election
4. Doctrine of Exchange

**Options :**

- 485584135381. 1
- 485584135382. 2
- 485584135383. 3
- 485584135384. 4

**Question Number : 211 Question Id : 48558433846 Question Type : MCQ Option Shuffling : No Is Question Mandatory : No Calculator : None Response Time : N.A Think Time : N.A Minimum Instruction Time : 0**

**Correct Marks : 5 Wrong Marks : 1**

**Question Key Details :**

Key	Value
Comprehension	MCQ

A ഒരു പ്രമാണ പ്രകാരം തന്റെ വീടും തോട്ടവും B യ്ക്ക് വിൽക്കുന്നു. എന്നാൽ B വീട് കൈവശം വയ്ക്കാനും തോട്ടം ഒഴിവാക്കാനും ആഗ്രഹിക്കുന്നു. B ക്ക് വീട് വേണമെങ്കിൽ തോട്ടവും വാങ്ങേണ്ടി വരും. അല്ലെങ്കിൽ, ആ ഇടപാട് പൂർണ്ണമായും റദ്ദാക്കേണ്ടതായി വരും. ഇവിടെ ബാധകമാകുന്ന തത്വം ഏത് ?

1. ഡോക്ട്രിൻ ഓഫ് ലിസ് പെൻഡൻസ്
2. ഡോക്ട്രിൻ ഓഫ് സ്യൂട്ടബിലിറ്റി
3. ഡോക്ട്രിൻ ഓഫ് ഇലക്ഷൻ
4. ഡോക്ട്രിൻ ഓഫ് എക്സ്ചേഞ്ച്

**Options :**

- 485584135381. 1
- 485584135382. 2
- 485584135383. 3
- 485584135384. 4

**Question Number : 212 Question Id : 48558433847 Question Type : MCQ Option Shuffling : No Is Question Mandatory : No Calculator : None Response Time : N.A Think Time : N.A Minimum Instruction Time : 0**

**Correct Marks : 5 Wrong Marks : 1**

**Question Key Details :**

Key	Value
Comprehension	MCQ

In what kind of transfer of property, the right and liabilities of the parties to exchange shall be that of the rights and liabilities of the buyer to the extent of receiving and that of the seller to the extent of giving.

1. Gift
2. Lease
3. Exchange
4. Mortgage

**Options :**

- 485584135385. 1
- 485584135386. 2
- 485584135387. 3
- 485584135388. 4

**Question Number : 212 Question Id : 48558433847 Question Type : MCQ Option Shuffling : No Is Question Mandatory : No Calculator : None Response Time : N.A Think Time : N.A Minimum Instruction Time : 0**

**Correct Marks : 5 Wrong Marks : 1**

**Question Key Details :**

Key	Value
Comprehension	MCQ

ഏത് തരം സ്വത്ത് കൈമാറ്റത്തിലാണ്, വിൽക്കുന്നയാളുടെ ബാധ്യതകളും അവകാശങ്ങളും വാങ്ങുന്നയാളുടെ ബാധ്യതകളും അവകാശങ്ങളുമായി മാറുന്നത് ?

1. ദാനം
2. പാട്ടം
3. കൈമാറ്റം
4. പണയം

**Options :**

- 485584135385. 1
- 485584135386. 2
- 485584135387. 3
- 485584135388. 4

**Question Number : 213 Question Id : 48558433848 Question Type : MCQ Option Shuffling : No Is Question Mandatory : No Calculator : None Response Time : N.A Think Time : N.A Minimum Instruction Time : 0**

**Correct Marks : 5 Wrong Marks : 1**

**Question Key Details :**

Key	Value
Comprehension	MCQ

Match List I with List II

LIST I		LIST II	
A.	False Imprisonment	I.	act of deliberate physical harm to victim
B.	Unlawful harassment	II.	claimant to be knowingly confined
C.	Trespass to Chattels	III.	invade real property without claimants approval
D.	Trespass to land	IV.	intermeddle with a chattel which was in the possession of claimant

Choose the correct answer from the options given below:

1. A-I, B-IV, C-II, D-III
2. A-II, B-I, C-IV, D-III
3. A-III, B-II, C-I, D-IV
4. A-IV, B-III, C-I, D-II

**Options :**

- 485584135389. 1
- 485584135390. 2
- 485584135391. 3
- 485584135392. 4

**Question Number : 213 Question Id : 48558433848 Question Type : MCQ Option Shuffling : No Is Question Mandatory : No Calculator : None Response Time : N.A Think Time : N.A Minimum Instruction Time : 0**

**Correct Marks : 5 Wrong Marks : 1**

**Question Key Details :**

Key	Value
Comprehension	MCQ

ചേരുംപടി ചേർക്കുക

പട്ടിക I		പട്ടിക II	
A.	അസാധുവായ തടവിടൽ	I.	ഇരയെ ബോധപൂർവ്വം ശാരീരികമായി അപകടപ്പെടുത്താനുള്ള പ്രവർത്തി
B.	നിയമവിരുദ്ധമായ പീഡനം	II.	പരാതിക്കാരനെ ബോധപൂർവ്വം തടഞ്ഞ് വെക്കൽ
C.	സ്വത്തിലേക്കുള്ള അതിക്രമിച്ച് കടക്കൽ	III.	പരാതിക്കാരനെ ബോധപൂർവ്വം തടഞ്ഞ് വെക്കൽ
D.	ഭൂസ്വത്തിലെക്കുള്ള അതിക്രമിച്ച് കടക്കൽ	IV.	പരാതിക്കാരന്റെ അനുവാദമില്ലാതെ അയാളുടെ കൈവശമുള്ള സ്വത്തിൽ ഇടപാട് നടത്തുക

താഴെ നൽകിയിരിക്കുന്നവയിൽ നിന്നും ശരിയായ ഉത്തരം തിരഞ്ഞെടുക്കുക:

1. A-I, B-IV, C-II, D-III
2. A-II, B-I, C-IV, D-III
3. A-III, B-II, C-I, D-IV
4. A-IV, B-III, C-I, D-II

**Options :**

- 485584135389. 1
- 485584135390. 2
- 485584135391. 3
- 485584135392. 4

**Question Number : 214 Question Id : 48558433849 Question Type : MCQ Option Shuffling : No Is Question Mandatory : No Calculator : None Response Time : N.A Think Time : N.A Minimum Instruction Time : 0**

**Correct Marks : 5 Wrong Marks : 1**

**Question Key Details :**

Key	Value
Comprehension	MCQ

The principle of "Duty of Care" is explained in which case:-

1. Donoghue v. Stevenson
2. Rylands v. Fletcher
3. Ashby v. White
4. M.C. Mehta v. Union of India

**Options :**

- 485584135393. 1

485584135394. 2  
485584135395. 3  
485584135396. 4

**Question Number : 214 Question Id : 48558433849 Question Type : MCQ Option Shuffling : No Is Question Mandatory : No Calculator : None Response Time : N.A Think Time : N.A Minimum Instruction Time : 0**

**Correct Marks : 5 Wrong Marks : 1**

**Question Key Details :**

Key	Value
Comprehension	MCQ

"ഡ്യൂട്ടി ഓഫ് കേയർ" എന്ന തത്വം വ്യാഖ്യാനിക്കപ്പെട്ടത് ഏത് കേസിലാണ് ?

1. ഡൊണോഗ് v. സ്റ്റീവൻസൺ
2. റൈലാൻഡ് v. ഫ്ലൈഷർ
3. ആഷ്ബി v. വൈറ്റ്
4. എം. സി മേത്ത v. യൂണിയൻ ഓഫ് ഇന്ത്യ

**Options :**

485584135393. 1  
485584135394. 2  
485584135395. 3  
485584135396. 4

**Question Number : 215 Question Id : 48558433850 Question Type : MCQ Option Shuffling : No Is Question Mandatory : No Calculator : None Response Time : N.A Think Time : N.A Minimum Instruction Time : 0**

**Correct Marks : 5 Wrong Marks : 1**

**Question Key Details :**

Key	Value
Comprehension	MCQ

A contract without consideration is

1. valid
2. Void
3. Voidable
4. Void ab initio

**Options :**

485584135397. 1  
485584135398. 2  
485584135399. 3  
485584135400. 4

**Question Number : 215 Question Id : 48558433850 Question Type : MCQ Option Shuffling : No Is Question Mandatory : No Calculator : None Response Time : N.A Think Time : N.A Minimum Instruction Time : 0**

**Correct Marks : 5 Wrong Marks : 1**

**Question Key Details :**

Key	Value
Comprehension	MCQ

പ്രതിഫലമില്ലാത്ത ഒരു കരാർ ?

1. സാധു
2. ശൂന്യം
3. വോയിഡബിൾ
4. വോയ് അബ് ഇനിഷ്യോ

**Options :**

485584135397. 1  
485584135398. 2  
485584135399. 3  
485584135400. 4

**Question Number : 216 Question Id : 48558433851 Question Type : MCQ Option Shuffling : No Is Question Mandatory : No Calculator : None Response Time : N.A Think Time : N.A Minimum Instruction Time : 0**

**Correct Marks : 5 Wrong Marks : 1**

**Question Key Details :**

Key	Value
Comprehension	MCQ

A contract can be enforced before the court only if it creates legal obligation among the parties. In light of the statement choose the correct answer.

- A. An agreement entered into with a minor is enforceable in exceptional circumstance
- B. An agreement entered between husband and wife cannot be enforced in the court
- C. An agreement with inadequate consideration is a voidable agreement
- D. A promise without consideration can create a valid contract
- E. An agreement with an intoxicated person cannot be called as contract

Choose the correct answer from the options given below:

1. A, B, D only
2. B and E only
3. C, D and E only
4. A, C and D only

**Options :**

485584135401. 1  
485584135402. 2  
485584135403. 3  
485584135404. 4

**Question Number : 216 Question Id : 48558433851 Question Type : MCQ Option Shuffling : No Is Question Mandatory : No Calculator : None Response Time : N.A Think Time : N.A Minimum Instruction Time : 0**

**Correct Marks : 5 Wrong Marks : 1**

**Question Key Details :**

<b>Key</b>	<b>Value</b>
Comprehension	MCQ

ഒരു ഉടമ്പടി നടപ്പാക്കുന്നതിന്, അതിൽ ഉൾപ്പെട്ടിട്ടുള്ള രണ്ട് പാർട്ടികൾക്കും നിയമപരമായ ബാധ്യത ഉള്ള സാഹചര്യത്തിൽ മാത്രമേ ആ ഉടമ്പടി കോടതി വഴി നടപ്പാക്കാൻ കഴിയൂ.

ഈ പ്രസ്താവനയുടെ വെളിച്ചത്തിൽ താഴെ കൊടുത്തിരിക്കുന്നവയിൽ ശരിയായ പ്രസ്താവനകൾ ഏതെല്ലാം ?

- A. ചില പ്രത്യേക സാഹചര്യങ്ങളിൽ, മൈനറുമായുള്ള ഉടമ്പടി കോടതി വഴി നടപ്പാക്കാം.
- B. ഭാര്യയും ഭർത്താവും തമ്മിലുള്ള ഉടമ്പടി കോടതി വഴി നടപ്പിലാക്കാൻ കഴിയില്ല.
- C. തക്കതായ പ്രതിഫലമില്ലാത്ത ഉടമ്പടി ഒരു വോയ്ക്കബിൾ എഗ്രീമെന്റ് ആണ്.
- D. പ്രതിഫലമില്ലാത്ത ഒരു വാഗ്ദാനം സാധ്യതയുള്ള ഒരു ഉടമ്പടിയായി മാറാം.
- E. ലഹരിവസ്തു ഉപയോഗിച്ച നിലയിലുള്ള ഒരാളുമായുള്ള കരാർ ഒരു ഉടമ്പടിയായി കണക്കാക്കാൻ കഴിയില്ല.

താഴെ നൽകിയിരിക്കുന്നവയിൽ നിന്നും ശരിയായ ഉത്തരം തിരഞ്ഞെടുക്കുക

- 1. A, B, D only
- 2. B and E only
- 3. C, D and E only
- 4. A, C and D only

**Options :**

- 485584135401. 1
- 485584135402. 2
- 485584135403. 3
- 485584135404. 4

**Question Number : 217 Question Id : 48558433852 Question Type : MCQ Option Shuffling : No Is Question Mandatory : No Calculator : None Response Time : N.A Think Time : N.A Minimum Instruction Time : 0**

**Correct Marks : 5 Wrong Marks : 1**

**Question Key Details :**

<b>Key</b>	<b>Value</b>
Comprehension	MCQ

Match List I with List II

LIST I		LIST II	
A.	Novation	I.	Terms of contract of modified
B.	Rescission	II.	New contract is substituted for an old contract.
C.	Waiver	III.	Certain or all terms of contract are cancelled
D.	Alteration	IV.	Parties to a contract abandon their mutual rights

Choose the correct answer from the options given below:

1. A-II, B-III, C-IV, D-I
2. A-II, B-I, C-III, D-IV
3. A-I, B-III, C-IV, D-II
4. A-III, B-II, C-IV, D-I

**Options :**

485584135405. 1  
485584135406. 2  
485584135407. 3  
485584135408. 4

**Question Number : 217 Question Id : 48558433852 Question Type : MCQ Option Shuffling : No Is Question Mandatory : No Calculator : None Response Time : N.A Think Time : N.A Minimum Instruction Time : 0**

**Correct Marks : 5 Wrong Marks : 1**

**Question Key Details :**

Key	Value
Comprehension	MCQ



ചേരുംപടി ചേർക്കുക

പട്ടിക I		പട്ടിക II	
A.	നൊവേഷൻ	I.	ഉടമ്പടി വ്യവസ്ഥകൾ പരിഷ്കരിക്കുക
B.	റിസിഷൻ	II.	പഴയ ഉടമ്പടിക്ക് പകരം പുതിയ ഉടമ്പടി ഉണ്ടാക്കുന്നു.
C.	വെയ് വർ	III.	ഒരു ഉടമ്പടിയിലെ ഏതാനുമോ അഥവാ എല്ലാ വ്യവസ്ഥകളുമോ റദ്ദ് ചെയ്യുന്നു.
D.	ഓൾട്ടറേഷൻ	IV.	ഒരു ഉടമ്പടിയിൽ ഏർപ്പെട്ട കക്ഷികൾ അവരുടെ അവകാശം ഉപേക്ഷിക്കുന്നു.

താഴെ നൽകിയിരിക്കുന്നവയിൽ നിന്നും ശരിയായ ഉത്തരം തിരഞ്ഞെടുക്കുക:

1. A-II, B-III, C-IV, D-I
2. A-II, B-I, C-III, D-IV
3. A-I, B-III, C-IV, D-II
4. A-III, B-II, C-IV, D-I

**Options :**

- 485584135405. 1
- 485584135406. 2
- 485584135407. 3
- 485584135408. 4

**Question Number : 218 Question Id : 48558433853 Question Type : MCQ Option Shuffling : No Is Question Mandatory : No Calculator : None Response Time : N.A Think Time : N.A Minimum Instruction Time : 0**

**Correct Marks : 5 Wrong Marks : 1**

**Question Key Details :**

Key	Value
Comprehension	MCQ

'A' agrees to supply 200 liters of oil to 'B' on 1st February 2023. The contract was entered between the two on 15th January 2023. On 31st January 2023, 'A' informed 'B' that the consignment has been dispatched and would reach 'B' on scheduled date. On 1st Feb 2023, 'B' refused to accept the oil as he did not have sufficient space to store the oil.

What is the remedy available with 'A'?

1. No remedy as the contract is discharged by impossibility of performance
2. No remedy is available as 'A' will get back his goods, so has not suffered any loss
3. 'A' is entitled to receive compensation from 'B' for breach of contract
4. 'A' can wait till 'B' arrange for warehouse

**Options :**

- 485584135409. 1

485584135410. 2  
485584135411. 3  
485584135412. 4

**Question Number : 218 Question Id : 48558433853 Question Type : MCQ Option Shuffling : No Is Question Mandatory : No Calculator : None Response Time : N.A Think Time : N.A Minimum Instruction Time : 0**

**Correct Marks : 5 Wrong Marks : 1**

**Question Key Details :**

Key	Value
Comprehension	MCQ

2023 ഫെബ്രുവരി 1 ന് B ക്ക് 200 ലിറ്റർ ഓയിൽ നൽകാമെന്ന് A വാഗ്ദാനം ചെയ്യുന്നു. 2023 ജനുവരി 15 ന് ഇത് സംബന്ധിച്ച ഒരു ഉടമ്പടി രണ്ടുപേരും ചേർന്ന് സ്ഥാപിച്ചു. ചരക്ക് അയച്ചിട്ടുണ്ടെന്നും പറഞ്ഞ തീയതിക്ക് ലഭിക്കുമെന്നും 2023 ജനുവരി 31 ന് A, B യെ അറിയിച്ചു. എന്നാൽ, ഓയിൽ സൂക്ഷിക്കാൻ ആവശ്യത്തിന് സ്ഥലം ഇല്ലാത്തതിനാൽ 2023 ഫെബ്രുവരി 1 ന് എത്തിയ ചരക്ക് സ്വീകരിക്കാൻ B വിസമ്മതിച്ചു.

A യ്ക്ക് ഇതിന് എന്ത് പരിഹാരമാണുള്ളത് ?

1. B യ്ക്ക് കരാറനുസരിച്ച് പ്രവർത്തിക്കാനുള്ള മാർഗ്ഗങ്ങൾ ഒന്നും ഇല്ലാത്തതിലാൽ A ക്ക് പരിഹാരം ഇല്ല.
2. A യ്ക്ക് തന്റെ ചരക്ക് തിരികെ ലഭിക്കും എന്നുള്ളത് കൊണ്ട് ധനനഷ്ടം ഇല്ലാത്തതിനാൽ, പരിഹാരമില്ല.
3. കരാർ ലംഘനത്തിന് A ക്ക് B യിൽ നിന്ന് നഷ്ടപരിഹാരം ഇടാക്കാൻ അവകാശമുണ്ട്.
4. B സംഭരണശാല കണ്ടെത്തുന്നത് വരെ A കാത്തിരിക്കണം.

**Options :**

485584135409. 1  
485584135410. 2  
485584135411. 3  
485584135412. 4

**Question Number : 219 Question Id : 48558433854 Question Type : MCQ Option Shuffling : No Is Question Mandatory : No Calculator : None Response Time : N.A Think Time : N.A Minimum Instruction Time : 0**

**Correct Marks : 5 Wrong Marks : 1**

**Question Key Details :**

Key	Value
Comprehension	MCQ

Which of the given statements is NOT correct for the Tribunals as a dispute resolution institution?

1. The 42nd Amendment Act empowered the Parliament to set up tribunals for adjudication of specialised disputes
2. The tribunals are meant to replace the courts as the courts are over burdened with pendency of cases.
3. The decisions of the tribunals could be scrutinised by the division of High Courts
4. Regulations oversee the law and order compliance by the tribunals in the relevant government sector.

**Options :**

- 485584135413. 1
- 485584135414. 2
- 485584135415. 3
- 485584135416. 4

**Question Number : 219 Question Id : 48558433854 Question Type : MCQ Option Shuffling : No Is Question Mandatory : No Calculator : None Response Time : N.A Think Time : N.A Minimum Instruction Time : 0**

**Correct Marks : 5 Wrong Marks : 1**

**Question Key Details :**

Key	Value
Comprehension	MCQ

തർക്ക പരിഹാര സ്ഥാപനങ്ങൾ എന്ന നിലയിൽ, ട്രിബ്യൂണലുകളുമായി ബന്ധപ്പെട്ട തെറ്റായ പ്രസ്താവന ഏത് ?

1. തർക്ക പരിഹാരത്തിനായി പ്രത്യേക ട്രിബ്യൂണലുകൾ സ്ഥാപിക്കുന്നതിനുള്ള രാധികാരം, ഭരണഘടനയുടെ 42 -ാം ഭേദഗതി പ്രകാരമാണ് പാർലമെന്റിന് ലഭിച്ചത്.
2. കോടതികളിൽ കേസുകൾ കെട്ടിക്കിടക്കുന്ന സാഹചര്യത്തിൽ, ട്രിബ്യൂണലുകൾ കോടതികൾക്ക് പകരമായി പ്രവർത്തിക്കുന്നു.
3. ട്രിബ്യൂണലുകളുടെ തീരുമാനങ്ങൾ ഹൈക്കോടതികളിൽ സൂക്ഷ്മ പരിശോധനക്ക് വിധേയമാക്കാവുന്നതാണ്.
4. ട്രിബ്യൂണലുകൾ, ബന്ധപ്പെട്ട് ഗവൺമെന്റ് സെക്ടറിൽ, നിയമ വ്യവസ്ഥക്ക് വിധേയമായാണ് പ്രവർത്തിക്കുന്നതെന്ന് റഗുലേഷൻസ് ഉറപ്പ് വരുത്തുന്നു.

**Options :**

- 485584135413. 1
- 485584135414. 2
- 485584135415. 3
- 485584135416. 4

**Question Number : 220 Question Id : 48558433855 Question Type : MCQ Option Shuffling : No Is Question Mandatory : No Calculator : None Response Time : N.A Think Time : N.A Minimum Instruction Time : 0**

**Correct Marks : 5 Wrong Marks : 1**

**Question Key Details :**

Key	Value
Comprehension	MCQ

Choose the correct statements

- A. The 42nd Amendment Act ushered the era of Human Rights in India
- B. The 42nd Amendment Act 1976 added Articles 323 A and 323 B to the Constitution of India
- C. Administrative Tribunals Act 1985 was enacted to cater the needs of SC/ST/OBC people.
- D. In L Chandra Kumar case, the seven judge bench of the Supreme Court held that tribunals would not take away the exclusive jurisdiction of the courts.

Choose the correct answer from the options given below:

- 1. A, B, C only
- 2. B and C only
- 3. B and D only
- 4. C and D only

**Options :**

- 485584135417. 1
- 485584135418. 2
- 485584135419. 3
- 485584135420. 4

**Question Number : 220 Question Id : 48558433855 Question Type : MCQ Option Shuffling : No Is Question Mandatory : No Calculator : None Response Time : N.A Think Time : N.A Minimum Instruction Time : 0**

**Correct Marks : 5 Wrong Marks : 1**

**Question Key Details :**

Key	Value
Comprehension	MCQ

ശരിയായ പ്രസ്താവനകൾ തിരഞ്ഞെടുക്കുക

- A. ഇന്ത്യയിൽ മനുഷ്യരുടെ നിയമങ്ങൾക്ക് തുടക്കം കുറിച്ചത് 42-ാം ഭരണഘടനാ ഭേദഗതിയാണ്.
- B. 1976 ലെ 42 -ാം ഭരണഘടനാ ഭേദഗതിയിൽ 323 A, 323 B എന്നീ അനുചേദങ്ങൾ ഭരണഘടനയിൽ കൂട്ടിച്ചേർക്കപ്പെട്ടു.
- C. എസ്.സി, എസ്.ടി, ഒ.ബി.സി വിഭാഗങ്ങളുടെ ആവശ്യങ്ങൾ നിറവേറ്റുന്നതിനായി 1985 ൽ അഡ്മിനിസ്ട്രേറ്റീവ് ട്രിബ്യൂണൽ ആക്ട് നിലവിൽ വന്നു.
- D. ട്രിബ്യൂണലുകൾ കോടതികളുടെ അധികാരത്തിൽ TRANSLATION MISSING

- 1. A, B, C only
- 2. B and C only
- 3. B and D only
- 4. C and D only

**Options :**

- 485584135417. 1
- 485584135418. 2
- 485584135419. 3
- 485584135420. 4

Question Number : 221 Question Id : 48558433856 Question Type : MCQ Option Shuffling : No Is Question Mandatory : No Calculator : None Response Time : N.A Think Time : N.A Minimum Instruction Time : 0  
 Correct Marks : 5 Wrong Marks : 1  
 Question Key Details :

Key	Value
Comprehension	MCQ

Central Vigilance Commission (CVC) was set up on the recommendation of which Committee:

1. Narsimhan Committee
2. Verma Committee
3. Tiwari Committee
4. Santhanam Committee

Options :

485584135421. 1  
 485584135422. 2  
 485584135423. 3  
 485584135424. 4

Question Number : 221 Question Id : 48558433856 Question Type : MCQ Option Shuffling : No Is Question Mandatory : No Calculator : None Response Time : N.A Think Time : N.A Minimum Instruction Time : 0  
 Correct Marks : 5 Wrong Marks : 1  
 Question Key Details :

Key	Value
Comprehension	MCQ

ഏത് കമ്മിറ്റിയുടെ ശുപാർശ പ്രകാരമാണ് കേന്ദ്ര വിജിലൻസ് കമ്മീഷൻ സ്ഥാപിക്കപ്പെട്ടത്

1. നരസിംഹൻ കമ്മിറ്റി
2. വർമ്മ കമ്മിറ്റി
3. തിവാരി കമ്മിറ്റി
4. സന്താനം കമ്മിറ്റി

Options :

485584135421. 1  
 485584135422. 2  
 485584135423. 3  
 485584135424. 4

Question Number : 222 Question Id : 48558433857 Question Type : MCQ Option Shuffling : No Is Question Mandatory : No Calculator : None Response Time : N.A Think Time : N.A Minimum Instruction Time : 0  
 Correct Marks : 5 Wrong Marks : 1  
 Question Key Details :

Key	Value
Comprehension	MCQ

ADR methods are \_\_\_\_\_ when compared to conventional Judicial Procedure.

1. Speedier, Informal and cheaper
2. Speedier, formal and costly
3. Formal, cheaper and slow
4. Slow, cheaper and informal

**Options :**

- 485584135425. 1
- 485584135426. 2
- 485584135427. 3
- 485584135428. 4

**Question Number : 222 Question Id : 48558433857 Question Type : MCQ Option Shuffling : No Is Question Mandatory : No Calculator : None Response Time : N.A Think Time : N.A Minimum Instruction Time : 0**

**Correct Marks : 5 Wrong Marks : 1**

**Question Key Details :**

Key	Value
Comprehension	MCQ

പരമ്പരാഗത ജൂഡീഷ്യൽ നടപടി ക്രമങ്ങളുമായി താരതമ്യം ചെയ്യുമ്പോൾ, എ.ഡി.ആർ സമ്പ്രദായം :-

1. വേഗതയും, അനൗപചാരികവും, ചെലവ് ചുരുങ്ങിയതും
2. വേഗതയും, അനൗപചാരികവും, ചെലവേറിയതും
3. ഔപചാരികവും, ചിലവേറിയതും, മന്ദഗതിയിലുള്ളതും
4. മന്ദഗതിയിലുള്ളതും, ചെലവ് കുറഞ്ഞതും, അനൗപചാരികവും

**Options :**

- 485584135425. 1
- 485584135426. 2
- 485584135427. 3
- 485584135428. 4

**Question Number : 223 Question Id : 48558433858 Question Type : MCQ Option Shuffling : No Is Question Mandatory : No Calculator : None Response Time : N.A Think Time : N.A Minimum Instruction Time : 0**

**Correct Marks : 5 Wrong Marks : 1**

**Question Key Details :**

Key	Value
Comprehension	MCQ

The first Lok Adalat was held in India in Junagarh in Gujarat on:-

1. 14 March 1982
2. 15 March 1982
3. 14 May 1982
4. 15 April 1982

**Options :**

485584135429. 1  
485584135430. 2  
485584135431. 3  
485584135432. 4

**Question Number : 223 Question Id : 48558433858 Question Type : MCQ Option Shuffling : No Is Question Mandatory : No Calculator : None Response Time : N.A Think Time : N.A Minimum Instruction Time : 0**

**Correct Marks : 5 Wrong Marks : 1**

**Question Key Details :**

Key	Value
Comprehension	MCQ

ഇന്ത്യയിൽ ആദ്യമായി ലോക് അദാലത്ത് നടന്നത് ഗുജറാത്തിലെ ജൂനഗറിലാണ്.  
ഏത് ദിവസം :-

1. 14 മാർച്ച് 1982
2. 15 മാർച്ച് 1982
3. 14 മേയ് 1982
4. 15 ഏപ്രിൽ 1982

**Options :**

485584135429. 1  
485584135430. 2  
485584135431. 3  
485584135432. 4

**Question Number : 224 Question Id : 48558433859 Question Type : MCQ Option Shuffling : No Is Question Mandatory : No Calculator : None Response Time : N.A Think Time : N.A Minimum Instruction Time : 0**

**Correct Marks : 5 Wrong Marks : 1**

**Question Key Details :**

Key	Value
Comprehension	MCQ

The Vedic age in India, witnessed specialised tribunal for settling disputes of family, community, tribe, caste and races.

Identify the name of the tribunal.

1. Kula
2. Shreni
3. Puga
4. Panchayat

**Options :**

485584135433. 1  
485584135434. 2  
485584135435. 3  
485584135436. 4

**Question Number : 224 Question Id : 48558433859 Question Type : MCQ Option Shuffling : No Is Question Mandatory : No Calculator : None Response Time : N.A Think Time : N.A Minimum Instruction Time : 0**

**Correct Marks : 5 Wrong Marks : 1**

**Question Key Details :**

Key	Value
Comprehension	MCQ

വേദകാലഘട്ടത്തിലെ ഇന്ത്യയിൽ, കുടുംബത്തിലും, സമുദായത്തിലും, ഗോത്രത്തിലും, ജാതിയിലും, വർഗ്ഗത്തിലും ഉടലെടുക്കുന്ന തർക്കങ്ങൾ പരിഹരിക്കുന്നതിനുള്ള പ്രത്യേക ട്രിബ്യൂണലുകൾ ഉണ്ടായിരുന്നു. ഇവയുടെ പേര് :-

1. കുലം
2. ശ്രേണി
3. പുഗ
4. പഞ്ചായത്ത്

**Options :**

485584135433. 1  
485584135434. 2  
485584135435. 3  
485584135436. 4

**Question Number : 225 Question Id : 48558433860 Question Type : MCQ Option Shuffling : No Is Question Mandatory : No Calculator : None Response Time : N.A Think Time : N.A Minimum Instruction Time : 0**

**Correct Marks : 5 Wrong Marks : 1**

**Question Key Details :**

Key	Value
Comprehension	MCQ



According to Preamble of Indian Constitution secures to all its citizen:

- A. Secularism
- B. Justice
- C. Socialism
- D. Fraternity
- E. Sovereignty

Choose the correct answer from the options given below:

- 1. A, B only
- 2. B, D only
- 3. D, E only
- 4. A, C only

**Options :**

- 485584135437. 1
- 485584135438. 2
- 485584135439. 3
- 485584135440. 4

**Question Number : 225 Question Id : 48558433860 Question Type : MCQ Option Shuffling : No Is Question Mandatory : No Calculator : None Response Time : N.A Think Time : N.A Minimum Instruction Time : 0**

**Correct Marks : 5 Wrong Marks : 1**

**Question Key Details :**

Key	Value
Comprehension	MCQ

ഇന്ത്യൻ ഭരണഘടനയുടെ ആമുഖം ഇന്ത്യയിലെ പൗരന്മാർക്ക് ഉറപ്പ് നൽകുന്നത് :-

- A. മതേതരത്വം
- B. നീതി
- C. സ്ഥിതിസമത്വം
- D. സാഹോദര്യം
- E. പരമാധികാരം

താഴെ നൽകിയിരിക്കുന്നവയിൽ നിന്നും ശരിയായ ഉത്തരം തിരഞ്ഞെടുക്കുക

- 1. A, B only
- 2. B, D only
- 3. D, E only
- 4. A, C only

**Options :**

- 485584135437. 1
- 485584135438. 2
- 485584135439. 3
- 485584135440. 4

**Question Number : 226 Question Id : 48558433861 Question Type : MCQ Option Shuffling : No Is Question Mandatory : No Calculator : None Response Time : N.A Think Time : N.A Minimum Instruction Time : 0**  
**Correct Marks : 5 Wrong Marks : 1**  
**Question Key Details :**

Key	Value
Comprehension	MCQ

LAMP (Legislative Assistants to Members of Parliament) fellowship program, provides fellowship to law students interested in public policy. This (LAMP) program is run by:

1. Competition Commission of India
2. Bar Council of India
3. Securities and Exchange Board of India
4. PRS Legislative Research

**Options :**

- 485584135441. 1
- 485584135442. 2
- 485584135443. 3
- 485584135444. 4

**Question Number : 226 Question Id : 48558433861 Question Type : MCQ Option Shuffling : No Is Question Mandatory : No Calculator : None Response Time : N.A Think Time : N.A Minimum Instruction Time : 0**  
**Correct Marks : 5 Wrong Marks : 1**  
**Question Key Details :**

Key	Value
Comprehension	MCQ

പൊതു നയങ്ങൾ പഠിക്കാൻ താല്പര്യമുള്ള നിയമ വിദ്യാർത്ഥികൾക്ക് നൽകപ്പെടുന്ന ഫെല്ലോഷിപ്പ് ആണ് LAMP (ലെജിസ്ലേറ്റീവ് അസിസ്റ്റൻ്റ്സ് ടു മെമ്പേർസ് ഓഫ് പാർലമെന്റ്) ഇത് നടപ്പാക്കുന്നത് :

1. കോമ്പറ്റീഷൻ കമ്മീഷൻ ഓഫ് ഇന്ത്യ
2. ബാർ കൗൺസിൽ ഓഫ് ഇന്ത്യ
3. സെക്യൂരിറ്റീസ് ആൻഡ് എക്സ്ചേഞ്ച് ബോർഡ് ഓഫ് ഇന്ത്യ
4. പി.ആർ.എസ് ലെജിസ്ലേറ്റീവ് റിസർച്ച്

**Options :**

- 485584135441. 1
- 485584135442. 2
- 485584135443. 3
- 485584135444. 4

**Question Number : 227 Question Id : 48558433862 Question Type : MCQ Option Shuffling : No Is Question Mandatory : No Calculator : None Response Time : N.A Think Time : N.A Minimum Instruction Time : 0**  
**Correct Marks : 5 Wrong Marks : 1**  
**Question Key Details :**

Key	Value
Comprehension	MCQ

In 1987, the first National Law School of India was set up in:

1. Jodhpur
2. Kolkata
3. Bangalore
4. Patna

**Options :**

- 485584135445. 1
- 485584135446. 2
- 485584135447. 3
- 485584135448. 4

**Question Number : 227 Question Id : 48558433862 Question Type : MCQ Option Shuffling : No Is Question Mandatory : No Calculator : None Response Time : N.A Think Time : N.A Minimum Instruction Time : 0**

**Correct Marks : 5 Wrong Marks : 1**

**Question Key Details :**

Key	Value
Comprehension	MCQ

1987 ൽ ഇന്ത്യയിലെ ആദ്യത്തെ നാഷണൽ ലോ സ്കൂൾ സ്ഥാപിക്കപ്പെട്ടത് :

1. ജോധ്പൂർ
2. കോൽക്കത്ത
3. ബാംഗ്ലൂർ
4. പാറ്റ്ന

**Options :**

- 485584135445. 1
- 485584135446. 2
- 485584135447. 3
- 485584135448. 4

**Question Number : 228 Question Id : 48558433863 Question Type : MCQ Option Shuffling : No Is Question Mandatory : No Calculator : None Response Time : N.A Think Time : N.A Minimum Instruction Time : 0**

**Correct Marks : 5 Wrong Marks : 1**

**Question Key Details :**

Key	Value
Comprehension	MCQ

Women were included in the legal profession after the enactment of \_\_\_\_\_.

1. Advocates Act, 1961
2. Legal Practitioners (Women) Act, 1923
3. Government of India Act, 1923
4. Legal Practitioners Act, 1846

**Options :**

- 485584135449. 1
- 485584135450. 2
- 485584135451. 3
- 485584135452. 4

**Question Number : 228 Question Id : 48558433863 Question Type : MCQ Option Shuffling : No Is Question Mandatory : No Calculator : None Response Time : N.A Think Time : N.A Minimum Instruction Time : 0**

**Correct Marks : 5 Wrong Marks : 1**

**Question Key Details :**

Key	Value
Comprehension	MCQ

സ്ത്രീകൾക്ക് നിയമ ഉദ്യോഗത്തിനുള്ള അവകാശം നൽകിയ നിയമം

1. അഡ്വക്കേറ്റ്സ് ആക്ട്, 1961
2. ലീഗൽ പ്രാക്ടീഷനേഴ്സ് (വിമൺ) ആക്ട്, 1923
3. ഗവൺമെന്റ് ഓഫ് ഇന്ത്യ ആക്ട്, 1923
4. ലീഗൽ പ്രാക്ടീഷനേഴ്സ് ആക്ട്, 1846

**Options :**

- 485584135449. 1
- 485584135450. 2
- 485584135451. 3
- 485584135452. 4

**Question Number : 229 Question Id : 48558433864 Question Type : MCQ Option Shuffling : No Is Question Mandatory : No Calculator : None Response Time : N.A Think Time : N.A Minimum Instruction Time : 0**

**Correct Marks : 5 Wrong Marks : 1**

**Question Key Details :**

Key	Value
Comprehension	MCQ

Arrange the below mentioned incidents in the correct sequence leading to liberalization of the legal profession:

- A. Madras HC's decision permitting lawyers to practice in India on a 'Fly in and fly out' basis
- B. Amendment in Advocate Act for preparing a level playing field for Indian Lawyers
- C. Signing of WTO Treaty by Government of India
- D. Judgment of Bombay HC that foreign law firms could not be permitted to set up liaison office in India
- E. Resolution passed by Bar Council of India opposing the opening up of legal profession to foreign lawyers

Choose the correct answer from the options given below:

- 1. C - B - E - D - A
- 2. A - C - D - E - B
- 3. D - B - E - C - A
- 4. A - C - B - E - D

**Options :**

- 485584135453. 1
- 485584135454. 2
- 485584135455. 3
- 485584135456. 4

**Question Number : 229 Question Id : 48558433864 Question Type : MCQ Option Shuffling : No Is Question Mandatory : No Calculator : None Response Time : N.A Think Time : N.A Minimum Instruction Time : 0**

**Correct Marks : 5 Wrong Marks : 1**

**Question Key Details :**

Key	Value
Comprehension	MCQ

നിയമ ഉദ്യോഗത്തിന്റെ ഉദാരവൽക്കരണത്തിലേക്ക് നയിച്ച സംഭവങ്ങൾ ക്രമാനുഗതമായി ചിട്ടപ്പെടുത്തുക:

- A. 'ഫ്ലൈ ഇൻ ഫ്ലൈ ഔട്ട്' അടിസ്ഥാനത്തിൽ പ്രാക്ടീസ് നടത്താൻ അഭിഭാഷകരെ അനുവദിച്ചുകൊണ്ടുള്ള മദ്രാസ് ഹൈക്കോടതിയുടെ തീരുമാനം.
- B. ഇന്ത്യൻ അഭിഭാഷകർക്ക് പ്രാക്ടീസ് നടത്തുന്നതിന് തുല്യത ഉറപ്പ് വരുത്തിക്കൊണ്ടുള്ള അഭിഭാഷക നിയമത്തിന്റെ പരിഷ്കരണം.
- C. ഇന്ത് ഗവൺമെന്റ് WTO യിൽ ഒപ്പ് വെച്ചത്.
- D. വിദേശ നിയമ സ്ഥാപനങ്ങൾക്ക് ഇന്ത്യയിൽ ലെയിസൺ ഓഫീസുകൾ തുടങ്ങാനുള്ള അനുമതി നിഷേധിച്ചുകൊണ്ടുള്ള ബോംബെ ഹൈക്കോടതി വിധി.
- E. വിദേശ അഭിഭാഷകർക്ക് ഇന്ത്യയിൽ നിയമ ഉദ്യോഗത്തിന് അനുമതി നൽകുന്നതിനെതിരെ ബാർ കൊൺസിൽ ഓഫ് ഇന്ത്യ പാസ്സാക്കിയ പ്രമേയം.

താഴെ നൽകിയിരിക്കുന്നവയിൽ നിന്നും ശരിയായ ഉത്തരം തിരഞ്ഞെടുക്കുക:

- 1. C - B - E - D - A
- 2. A - C - D - E - B
- 3. D - B - E - C - A
- 4. A - C - B - E - D

**Options :**

- 485584135453. 1
- 485584135454. 2
- 485584135455. 3
- 485584135456. 4

**Question Number : 230 Question Id : 48558433865 Question Type : MCQ Option Shuffling : No Is Question Mandatory : No Calculator : None Response Time : N.A Think Time : N.A Minimum Instruction Time : 0**

**Correct Marks : 5 Wrong Marks : 1**

**Question Key Details :**

Key	Value
Comprehension	MCQ

Match List I with List II

LIST I Countries		LIST II Regulation/Restriction on Advertisement	
A.	USA	I.	Bar Council of India Rules
B.	Malayasia	II.	Model Rules of Professional Conduct
C.	India	III.	Legal Profession (Publicity Rules) 2001
D.	Hongkong	IV.	Forbidden to advertise on television, radio and in cinemas

Choose the correct answer from the options given below:

1. A-I, B-II, C-IV, D-III
2. A-II, B-III, C-I, D-IV
3. A-III, B-IV, C-II, D-I
4. A-IV, B-I, C-III, D-II

**Options :**

485584135457. 1  
485584135458. 2  
485584135459. 3  
485584135460. 4

**Question Number : 230 Question Id : 48558433865 Question Type : MCQ Option Shuffling : No Is Question Mandatory : No Calculator : None Response Time : N.A Think Time : N.A Minimum Instruction Time : 0**

**Correct Marks : 5 Wrong Marks : 1**

**Question Key Details :**

Key	Value
Comprehension	MCQ

ചേരുംപടി ചേർക്കുക

പട്ടിക I രാജ്യങ്ങൾ		പട്ടിക II പരസ്യത്തിനുള്ള നിയന്ത്രണങ്ങൾ	
A.	യു.എസി.എ	I.	ബാർ കൌൺസിൽ ഓഫ് ഇന്ത്യ നിയമങ്ങൾ
B.	മലേഷ്യ	II.	മോഡൽ റൂൾസ് ഓഫ് പ്രൊഫഷണൽ കൺഡക്ട്
C.	ഇന്ത്യ	III.	ലീഗൽ പ്രൊഫഷൻ (പബ്ലിസിറ്റി റൂൾസ് 2001)
D.	ഹോങ്കോങ്ങ്	IV.	ടിവിയിലും, റേഡിയോയിലും സിനിമയിലും പരസ്യം ചെയ്യുന്നതിനുള്ള വിലക്ക്

താഴെ നൽകിയിരിക്കുന്നവയിൽ നിന്നും ശരിയായ ഉത്തരം തിരഞ്ഞെടുക്കുക:

1. A-I, B-II, C-IV, D-III
2. A-II, B-III, C-I, D-IV
3. A-III, B-IV, C-II, D-I
4. A-IV, B-I, C-III, D-II

**Options :**

- 485584135457. 1
- 485584135458. 2
- 485584135459. 3
- 485584135460. 4

**Question Number : 231 Question Id : 48558433866 Question Type : MCQ Option Shuffling : No Is Question Mandatory : No Calculator : None Response Time : N.A Think Time : N.A Minimum Instruction Time : 0**

**Correct Marks : 5 Wrong Marks : 1**

**Question Key Details :**

Key	Value
Comprehension	MCQ



Who among the following are allowed to practice law in India after the Advocates Act 1961?

- A. Barristers
- B. Advocates
- C. Advocate on Record
- D. Attorney General of India
- E. Pleaders

Choose the correct answer from the options given below:

- 1. A, B only
- 2. B, C only
- 3. C, D only
- 4. D, E only

**Options :**

- 485584135461. 1
- 485584135462. 2
- 485584135463. 3
- 485584135464. 4

**Question Number : 231 Question Id : 48558433866 Question Type : MCQ Option Shuffling : No Is Question Mandatory : No Calculator : None Response Time : N.A Think Time : N.A Minimum Instruction Time : 0**

**Correct Marks : 5 Wrong Marks : 1**

**Question Key Details :**

Key	Value
Comprehension	MCQ

1961 ലെ അഡ്വക്കേറ്റ്സ് ആക്ട് പ്രകാരം, ഇന്ത്യയിൽ നിയമം പ്രാക്ടീസ് ചെയ്യുന്നതിനുള്ള അവകാശം ആർക്കെല്ലാമാണ് ഉള്ളത് ?

- A. ബാരിസ്റ്റേഴ്സ്
- B. അഡ്വക്കേറ്റ്സ്
- C. അഡ്വക്കേറ്റ് ഓൺ റെക്കോർഡ്
- D. അറ്റോർണി ജനറൽ ഓഫ് ഇന്ത്യ
- E. പ്ലീഡേഴ്സ്

താഴെ നൽകിയിരിക്കുന്നവയിൽ നിന്നും ശരിയായ ഉത്തരം തിരഞ്ഞെടുക്കുക:

- 1. A, B only
- 2. B, C only
- 3. C, D only
- 4. D, E only

**Options :**

- 485584135461. 1
- 485584135462. 2
- 485584135463. 3

**Question Number : 232 Question Id : 48558433867 Question Type : MCQ Option Shuffling : No Is Question Mandatory : No Calculator : None Response Time : N.A Think Time : N.A Minimum Instruction Time : 0**

**Correct Marks : 5 Wrong Marks : 1**

**Question Key Details :**

Key	Value
Comprehension	MCQ

Match List I with List II

LIST I		LIST II	
A.	14th Law Commission Report	I.	India became obliged to introduce free legal aid in domestic legislation
B.	Committee on Judicature	II.	Lok Adalat to be setup to promote free legal Aid
C.	Legal Services Authorities Act, 1987	III.	Promoted the idea of free Legal Aid
D.	Signing of ICCPR in 1976	IV.	Framework to provide free Legal aid prepared

Choose the correct answer from the options given below:

1. A-IV, B-I, C-III, D-II
2. A-I, B-II, C-IV, D-III
3. A-II, B-III, C-I, D-IV
4. A-III, B-IV, C-II, D-I

**Options :**

485584135465. 1  
485584135466. 2  
485584135467. 3  
485584135468. 4

**Question Number : 232 Question Id : 48558433867 Question Type : MCQ Option Shuffling : No Is Question Mandatory : No Calculator : None Response Time : N.A Think Time : N.A Minimum Instruction Time : 0**

**Correct Marks : 5 Wrong Marks : 1**

**Question Key Details :**

Key	Value
Comprehension	MCQ

ചേരുംപടി ചേർക്കുക

പട്ടിക I		പട്ടിക II	
A.	14 -ാമത് ലോകമ്മീഷൻ റിപ്പോർട്ട്	I.	സൗജന്യ നിയമ സഹായം ഉറപ്പ് വരുത്തുന്നതിന് ഇന്ത്യ ബാധ്യസ്ഥമായി
B.	കമ്മിറ്റി ഓൺ ജുഡിക്കേഷൻ	II.	സൗജന്യ നിയമ സഹായത്തിന് ലോക് അദാലത്തുകൾ സ്ഥാപിക്കപ്പെട്ടു.
C.	ലീഗൽ സർവ്വീസസ് അതോറിറ്റീസ് ആക്ട്, 1987	III.	സൗജന്യ നിയമ സഹായം എന്ന ആശയം പ്രോത്സാഹിപ്പിച്ചു.
D.	ICCP, 1976	IV.	സൗജന്യ നിയമസഹായം നൽകുന്നതിനുള്ള രൂപരേഖ തയ്യാറാക്കി

താഴെ നൽകിയിരിക്കുന്നവയിൽ നിന്നും ശരിയായ ഉത്തരം തിരഞ്ഞെടുക്കുക:

1. A-IV, B-I, C-III, D-II
2. A-I, B-II, C-IV, D-III
3. A-II, B-III, C-I, D-IV
4. A-III, B-IV, C-II, D-I

**Options :**

- 485584135465. 1
- 485584135466. 2
- 485584135467. 3
- 485584135468. 4

**Question Number : 233 Question Id : 48558433868 Question Type : MCQ Option Shuffling : No Is Question Mandatory : No Calculator : None Response Time : N.A Think Time : N.A Minimum Instruction Time : 0**

**Correct Marks : 5 Wrong Marks : 1**

**Question Key Details :**

Key	Value
Comprehension	MCQ

Which international organisation was initially originated as International Bank for Reconstruction and Development (IBRD)?

1. International Monetary Fund
2. World Bank
3. Reserve Bank
4. Monetary Bank of world

**Options :**

- 485584135469. 1

485584135470. 2  
485584135471. 3  
485584135472. 4

**Question Number : 233 Question Id : 48558433868 Question Type : MCQ Option Shuffling : No Is Question Mandatory : No Calculator : None Response Time : N.A Think Time : N.A Minimum Instruction Time : 0**

**Correct Marks : 5 Wrong Marks : 1**

**Question Key Details :**

Key	Value
Comprehension	MCQ

ഇന്റർനാഷണൽ ബാങ്ക് ഫോർ റീകൺസ്ട്രക്ഷൻ ആൻഡ് ഡിവലപ്പ്മെന്റ് (IBRD) താഴെ കൊടുത്തിട്ടുള്ളതിൽ ഏതിന്റെ പ്രാരംഭ രൂപമാണ് ?

1. ഇന്റർനാഷണൽ മോണിറ്ററി ഫണ്ട്
2. ലോക ബാങ്ക്
3. റിസർവ് ബാങ്ക്
4. മോണിറ്ററി ബാങ്ക് ഓഫ് വേൾഡ്

**Options :**

485584135469. 1  
485584135470. 2  
485584135471. 3  
485584135472. 4

**Question Number : 234 Question Id : 48558433869 Question Type : MCQ Option Shuffling : No Is Question Mandatory : No Calculator : None Response Time : N.A Think Time : N.A Minimum Instruction Time : 0**

**Correct Marks : 5 Wrong Marks : 1**

**Question Key Details :**

Key	Value
Comprehension	MCQ

Arrange the following in order of establishment

- A. ILO
- B. UNESCO
- C. IMF
- D. WHO

Choose the correct answer from the options given below:

1. A - C - B - D
2. D - A - B - C
3. C - A - B - D
4. A - B - C - D

**Options :**

485584135473. 1

485584135474. 2  
485584135475. 3  
485584135476. 4

**Question Number : 234 Question Id : 48558433869 Question Type : MCQ Option Shuffling : No Is Question Mandatory : No Calculator : None Response Time : N.A Think Time : N.A Minimum Instruction Time : 0**

**Correct Marks : 5 Wrong Marks : 1**

**Question Key Details :**

Key	Value
Comprehension	MCQ

താഴെ കൊടുത്തിരിക്കുന്നവയെ, അവ സ്ഥാപിക്കപ്പെട്ടതിന്റെ ക്രമത്തിൽ എഴുതുക

- A. ILO
- B. UNESCO
- C. IMF
- D. WHO

താഴെ നൽകിയിരിക്കുന്നവയിൽ നിന്നും ശരിയായ ഉത്തരം തിരഞ്ഞെടുക്കുക :

- 1. A - C - B - D
- 2. D - A - B - C
- 3. C - A - B - D
- 4. A - B - C - D

**Options :**

485584135473. 1  
485584135474. 2  
485584135475. 3  
485584135476. 4

**Question Number : 235 Question Id : 48558433870 Question Type : MCQ Option Shuffling : No Is Question Mandatory : No Calculator : None Response Time : N.A Think Time : N.A Minimum Instruction Time : 0**

**Correct Marks : 5 Wrong Marks : 1**

**Question Key Details :**

Key	Value
Comprehension	MCQ

Which of the following is not a method by which a state may express its consent to be bound by a particular treaty:-

- 1. Consent by signature
- 2. Consent by exchange of instruments
- 3. Consent by verbal assurance of Head of State
- 4. Consent by ratification

**Options :**

485584135477. 1  
485584135478. 2

485584135479. 3

485584135480. 4

**Question Number : 235 Question Id : 48558433870 Question Type : MCQ Option Shuffling : No Is Question Mandatory : No Calculator : None Response Time : N.A Think Time : N.A Minimum Instruction Time : 0**

**Correct Marks : 5 Wrong Marks : 1**

**Question Key Details :**

Key	Value
Comprehension	MCQ

ഒരു ഉടമ്പടിയുടെ ഭാഗമാകുന്നതിനുള്ള സമ്മതം ഒരു രാഷ്ട്രം പ്രകടിപ്പിക്കുന്നതിന് സ്വീകരിക്കാത്ത രീതി :-

1. കൈയൊപ്പ് വഴിയുള്ള സമ്മതം
2. പരസ്പരം ഉടമ്പടികൾ കൈമാറിക്കൊണ്ടുള്ള അനുമതി
3. രാഷ്ട്രത്തലവന്റെ വാക്കാലുള്ള ഉറപ്പ് വഴി നൽകുന്ന അനുമതി
4. ഔദ്യോഗിക സ്ഥിരീകരണം വഴിയുള്ള അനുമതി

**Options :**

485584135477. 1

485584135478. 2

485584135479. 3

485584135480. 4

**Question Number : 236 Question Id : 48558433871 Question Type : MCQ Option Shuffling : No Is Question Mandatory : No Calculator : None Response Time : N.A Think Time : N.A Minimum Instruction Time : 0**

**Correct Marks : 5 Wrong Marks : 1**

**Question Key Details :**

Key	Value
Comprehension	MCQ

Which of the following is a subsidiary source of International law according to Article 38(1) of ICJ statute?

1. International Conventions
2. International Customs
3. General Principles of International law
4. Teachings of most highly qualified Publicists

**Options :**

485584135481. 1

485584135482. 2

485584135483. 3

485584135484. 4

**Question Number : 236 Question Id : 48558433871 Question Type : MCQ Option Shuffling : No Is Question Mandatory : No Calculator : None Response Time : N.A Think Time : N.A Minimum Instruction Time : 0**

**Correct Marks : 5 Wrong Marks : 1**

**Question Key Details :**

Key	Value
Comprehension	MCQ

ഇന്റർനാഷണൽ കോർട്ട് ഓഫ് ജസ്റ്റിസിന്റെ ചട്ടത്തിലെ അനുചേദദം 38(1) പ്രകാരം അന്താരാഷ്ട്ര നിയമങ്ങളുടെ ഉപസ്രോതസ്സായി കണക്കാക്കേണ്ടത് :-

1. ഇന്റർനാഷണൽ കൺവെൻഷൻസ്
2. ഇന്റർനാഷണൽ കസ്റ്റംസ്
3. അന്താരാഷ്ട്ര നിയമത്തിലെ പൊതു തത്വങ്ങൾ
4. യോഗ്യരായ രാജ്യവ്യവഹാര നിയമജ്ഞരുടെ നിർദ്ദേശങ്ങൾ

**Options :**

- 485584135481. 1
- 485584135482. 2
- 485584135483. 3
- 485584135484. 4

**Question Number : 237 Question Id : 48558433872 Question Type : MCQ Option Shuffling : No Is Question Mandatory : No Calculator : None Response Time : N.A Think Time : N.A Minimum Instruction Time : 0**

**Correct Marks : 5 Wrong Marks : 1**

**Question Key Details :**

Key	Value
Comprehension	MCQ

Choose the correct chronological order of the following

- A. The Hague conference focuses on wide array of aspects of private law.
- B. India adopted the UNCITRAL.
- C. ILO was set up after the war, as a part of Treaty of Versailles
- D. Human Rights Council is working for human rights issues.

Choose the correct answer from the options given below:

1. B, C, A, D
2. A, C, B, D
3. D, A, B, C
4. B, D, A, C

**Options :**

- 485584135485. 1
- 485584135486. 2
- 485584135487. 3
- 485584135488. 4

**Question Number : 237 Question Id : 48558433872 Question Type : MCQ Option Shuffling : No Is Question Mandatory : No Calculator : None Response Time : N.A Think Time : N.A Minimum Instruction Time : 0**

**Correct Marks : 5 Wrong Marks : 1**

**Question Key Details :**

Key	Value
Comprehension	MCQ

തന്നിരിക്കുന്നവയെ കാലഗണന പ്രകാരം ക്രമപ്പെടുത്തുക

- പ്രൈവറ്റ് ലോയുടെ വിവിധ വശങ്ങൾ പരിശോധിച്ച ഹേഗ് കോൺഫറൻസ്
- ഇന്ത്യ UNCITRAL സ്വീകരിച്ചു.
- വെർസെയിൽ ഉടമ്പടിയുടെ ഭാഗമായി യുദ്ധത്തിന് ശേഷം ILO സ്ഥാപിക്കപ്പെട്ടു.
- മനുഷ്യാവകാശ പ്രശ്നങ്ങൾ കൈകാര്യം ചെയ്യുന്നതിന് ഹ്യൂമൻ റൈറ്റ്സ് കൗൺസിൽ നിലവിൽ വന്നു.

താഴെ നൽകിയിരിക്കുന്നവയിൽ നിന്നും ശരിയായ ഉത്തരം തിരഞ്ഞെടുക്കുക:

- B, C, A, D
- A, C, B, D
- D, A, B, C
- B, D, A, C

**Options :**

485584135485. 1
485584135486. 2
485584135487. 3
485584135488. 4

**Question Number : 238 Question Id : 48558433873 Question Type : MCQ Option Shuffling : No Is Question Mandatory : No Calculator : None Response Time : N.A Think Time : N.A Minimum Instruction Time : 0**

**Correct Marks : 5 Wrong Marks : 1**

**Question Key Details :**

Key	Value
Comprehension	MCQ

Article 59 of the statute of the ICJ states that except on parties to the dispute the decision of ICJ is

- Not binding
- binding on all states
- based on consent of states
- binding on Security Council

**Options :**

485584135489. 1
485584135490. 2
485584135491. 3
485584135492. 4

**Question Number : 238 Question Id : 48558433873 Question Type : MCQ Option Shuffling : No Is Question Mandatory : No Calculator : None Response Time : N.A Think Time : N.A Minimum Instruction Time : 0**

**Correct Marks : 5 Wrong Marks : 1**



**Question Key Details :**

Key	Value
Comprehension	MCQ

ഇന്റർനാഷണൽ കോർട്ട് ഓഫ് ജസ്റ്റിസിന്റെ ചട്ടത്തിലെ അനുചേദം 59 പ്രകാരം, തർക്കത്തിൽ പെടുന്ന കക്ഷി രാഷ്ട്രങ്ങൾക്കൊഴികെ മറ്റുള്ളവർക്ക് ICJ യുടെ തീരുമാനങ്ങൾ :-

1. അനുസരിക്കാൻ ബാധ്യതയില്ല
2. എല്ലാവരും അനുസരിക്കാൻ ബാധ്യസ്ഥരാണ്
3. രാഷ്ട്രങ്ങളുടെ അനുമതിക്ക് വിധേയമാണ്
4. അനുസരിക്കാൻ സെക്യൂരിറ്റി കൗൺസിൽ ബാധ്യസ്ഥമാണ്

**Options :**

- 485584135489. 1
- 485584135490. 2
- 485584135491. 3
- 485584135492. 4

**Question Number : 239 Question Id : 48558433874 Question Type : MCQ Option Shuffling : No Is Question Mandatory : No Calculator : None Response Time : N.A Think Time : N.A Minimum Instruction Time : 0**

**Correct Marks : 5 Wrong Marks : 1**

**Question Key Details :**

Key	Value
Comprehension	MCQ

Match List I with List II

LIST I		LIST II	
A.	<i>Injuria Sine Damnum</i>	I.	Where there is right there is remedy
B.	<i>Bona fide</i>	II.	Let the buyer beware
C.	<i>Caveat Emptor</i>	III.	Injury without damage
D.	<i>Ubi Jus Ibi Remedium</i>	IV.	Good faith

Choose the correct answer from the options given below:

1. A-III, B-IV, C-II, D-I
2. A-I, B-II, C-III, D-IV
3. A-IV, B-III, C-I, D-II
4. A-I, B-IV, C-II, D-III

**Options :**

- 485584135493. 1
- 485584135494. 2
- 485584135495. 3
- 485584135496. 4

Question Number : 239 Question Id : 48558433874 Question Type : MCQ Option Shuffling : No Is Question Mandatory : No Calculator : None Response Time : N.A Think Time : N.A Minimum Instruction Time : 0

Correct Marks : 5 Wrong Marks : 1

Question Key Details :

Key	Value
Comprehension	MCQ

ചേരുംപടി ചേർക്കുക

പട്ടിക I		പട്ടിക II	
A.	ഇൻജൂനിയ സിനെ ഡാമം	I.	അവകാശമുള്ളിടത്ത് പരിഹാരവുമുണ്ട്
B.	ബോണ ഫൈഡ്	II.	വാങ്ങുന്നവൻ ശ്രദ്ധിക്കുക
C.	കവീറ്റ് എംപ്റ്റർ	III.	നഷ്ടമേൽപ്പിക്കാത്ത ഹാനി
D.	യൂബി ജസ് ഇബി റെമെഡിയം	IV.	സദുദ്ദേശ്യം

താഴെ നൽകിയിരിക്കുന്നവയിൽ നിന്നും ശരിയായ ഉത്തരം തിരഞ്ഞെടുക്കുക:

1. A-III, B-IV, C-II, D-I
2. A-I, B-II, C-III, D-IV
3. A-IV, B-III, C-I, D-II
4. A-I, B-IV, C-II, D-III

Options :

- 485584135493. 1
- 485584135494. 2
- 485584135495. 3
- 485584135496. 4

Question Number : 240 Question Id : 48558433875 Question Type : MCQ Option Shuffling : No Is Question Mandatory : No Calculator : None Response Time : N.A Think Time : N.A Minimum Instruction Time : 0

Correct Marks : 5 Wrong Marks : 1

Question Key Details :

Key	Value
Comprehension	MCQ

What is the meaning of the legal Maxim 'Ignorantia Facti Excusat- Ignorantia Juris Non Excusat'

1. Ignorance of law is an excuse
2. Ignorance of law of fact is not an excuse
3. Ignorance of fact is an excuse but ignorance of law is not an excuse
4. Ignorance of fact is not an excuse

Options :

- 485584135497. 1
- 485584135498. 2

485584135499. 3

485584135500. 4

Question Number : 240 Question Id : 48558433875 Question Type : MCQ Option Shuffling : No Is Question Mandatory : No Calculator : None Response Time : N.A Think Time : N.A Minimum Instruction Time : 0

Correct Marks : 5 Wrong Marks : 1

Question Key Details :

Key	Value
Comprehension	MCQ

ഇശോറാൻഷ്യ ഫാക്ടി എക്സ്പൂസാറ്റ് - ഇശോറാൻഷ്യ ജ്യൂറീസ് നോൺ എക്സ്പൂസാറ്റ് എന്ന നിയമ തത്വത്തിന്റെ അർത്ഥം എന്ത് ?

1. നിയമത്തെക്കുറിച്ചുള്ള അജ്ഞത തെറ്റ് പൊറുക്കപ്പെടാനുള്ള കാരണമാണ്
2. നിയമത്തെക്കുറിച്ചുള്ള അജ്ഞത തെറ്റ് പൊറുക്കപ്പെടാനുള്ള കാരണമല്ല
3. വസ്തുക്കളെക്കുറിച്ചുള്ള അജ്ഞത തെറ്റ് പൊറുക്കപ്പെടാനുള്ള കാരണമാണ്, പക്ഷെ നിയമത്തെക്കുറിച്ചുള്ള അജ്ഞത അതിനുള്ള കാരണമല്ല
4. വസ്തുക്കളെക്കുറിച്ചുള്ള അജ്ഞത തെറ്റ് പൊറുക്കപ്പെടാനുള്ള കാരണമല്ല

Options :

485584135497. 1

485584135498. 2

485584135499. 3

485584135500. 4

Sub-Section Number :

2

Sub-Section Id :

4855842432

Question Shuffling Allowed :

No

Is Section Default? :

null

Question Number : 241 Question Id : 48558433876 Question Type : MCQ Option Shuffling : No Is Question Mandatory : No Calculator : None Response Time : N.A Think Time : N.A Minimum Instruction Time : 0

Correct Marks : 5 Wrong Marks : 1

Question Key Details :

Key	Value
Comprehension	Comp1

Read the passage and answer the following questions:-

"In 2010, the National Legal Services Authority of India (NALSA) adopted the National Legal Service Authority (Free and Competent Legal Services) Regulations in exercise of its power under Section 29 of Legal Service Authorities Act, 1987. The regulations are applicable to Legal Service Committees of the Supreme Court, High Courts, the States, districts and taluks. The legal service institution is vested with authority to invite applications from legal practitioners with requisite experience to indicate the type of cases they are entrusted with."

To be part of panel of lawyers to provide legal aid, the practioner should have

1. 3 or more years experience at bar
2. less than 3 years experience at bar
3. 5 years experience at bar
4. 10 years experience at bar

**Options :**

- 485584135501. 1
- 485584135502. 2
- 485584135503. 3
- 485584135504. 4

**Question Number : 241 Question Id : 48558433876 Question Type : MCQ Option Shuffling : No Is Question Mandatory : No Calculator : None Response Time : N.A Think Time : N.A Minimum Instruction Time : 0**

**Correct Marks : 5 Wrong Marks : 1**

**Question Key Details :**

Key	Value
Comprehension	Compl

ഖണ്ഡിക വായിച്ച് തന്നിരിക്കുന്ന ചോദ്യങ്ങൾക്ക് ഉത്തരമെഴുതുക.

2010 ൽ നാഷണൽ ലീഗൽ സർവ്വീസ് അതോറിറ്റി ഓഫ് ഇന്ത്യ, 1987 ലെ ലീഗൽ സർവ്വീസ് അതോറിറ്റീസ് ആക്ടിന്റെ സെക്ഷൻ 29 ലെ അധികാരം ഉപയോഗിച്ച്, നാഷണൽ ലീഗൽ സർവ്വീസ് അതോറിറ്റി റെഗുലേഷൻസ് പാസ്സാക്കി. ഈ റെഗുലേഷൻസ് സുപ്രീം കോടതിക്കും, ഹൈക്കോടതിക്കും, സംസ്ഥാന, ജില്ലാ താലൂക്ക് തല ലീഗൽ സർവ്വീസസ് കമ്മീഷൻ, ആവശ്യമായ അനുഭവങ്ങൾ പരിജ്ഞാനമുള്ള അഭിഭാഷകരിൽ നിന്ന് അവർ കൈകാര്യം ചെയ്യുന്ന കേസുകളുടെ വിവിധ വശങ്ങളെ സംബന്ധിക്കുന്ന വിവരങ്ങൾ ശേഖരിക്കുന്നു.

നിയമസഹായം നൽകുന്നതിനുള്ള അഭിഭാഷകരുടെ പട്ടികയിൽ ഉൾപ്പെടുന്നതിന്, ഒരു അഭിഭാഷകന്/അഭിഭാഷകക്ക് എത്ര വർഷത്തെ പരിചയം ആവശ്യമാണ് ?

1. ബാറിൽ 3 വർഷമോ അതിൽ കൂടുതലോ
2. ബാറിൽ 3 വർഷത്തിൽ കൂടുതൽ
3. ബാറിൽ 5 വർഷത്തെ പരിചയം
4. ബാറിൽ 10 വർഷത്തെ പരിചയം

**Options :**

- 485584135501. 1
- 485584135502. 2
- 485584135503. 3
- 485584135504. 4

**Question Number : 242 Question Id : 48558433877 Question Type : MCQ Option Shuffling : No Is Question Mandatory : No Calculator : None Response Time : N.A Think Time : N.A Minimum Instruction Time : 0**

**Correct Marks : 5 Wrong Marks : 1**

**Question Key Details :**

Key	Value
Comprehension	Comp1

Read the passage and answer the following questions:-

"In 2010, the National Legal Services Authority of India (NALSA) adopted the National Legal Service Authority (Free and Competent Legal Services) Regulations in exercise of its power under Section 29 of Legal Service Authorities Act, 1987. The regulations are applicable to Legal Service Committees of the Supreme Court, High Courts, the States, districts and taluks. The legal service institution is vested with authority to invite applications from legal practitioners with requisite experience to indicate the type of cases they are entrusted with."

Panel of legal aid lawyers is reconstituted

1. every year
2. every three years
3. every 5 years
4. every 2 years

**Options :**

- 485584135505. 1
- 485584135506. 2
- 485584135507. 3
- 485584135508. 4

**Question Number : 242 Question Id : 48558433877 Question Type : MCQ Option Shuffling : No Is Question Mandatory : No Calculator : None Response Time : N.A Think Time : N.A Minimum Instruction Time : 0**

**Correct Marks : 5 Wrong Marks : 1**

**Question Key Details :**

Key	Value
Comprehension	Comp1

ഖണ്ഡിക വായിച്ച് തന്നിരിക്കുന്ന ചോദ്യങ്ങൾക്ക് ഉത്തരമെഴുതുക.

2010 ൽ നാഷണൽ ലീഗൽ സർവ്വീസ് അതോറിറ്റി ഓഫ് ഇന്ത്യ, 1987 ലെ ലീഗൽ സർവ്വീസ് അതോറിറ്റിസ് ആക്ടിന്റെ സെക്ഷൻ 29 ലെ അധികാരം ഉപയോഗിച്ച്, നാഷണൽ ലീഗൽ സർവ്വീസ് അതോറിറ്റി റെഗുലേഷൻസ് പാസ്സാക്കി. ഈ റെഗുലേഷൻസ് സുപ്രീം കോടതിക്കും, ഹൈക്കോടതിക്കും, സംസ്ഥാന, ജില്ലാ താലൂക്ക് തല ലീഗൽ സർവ്വീസസ് കമ്മീഷൻ, ആവശ്യമായ അനുഭവങ്ങൾ പരിജ്ഞാനമുള്ള അഭിഭാഷകരിൽ നിന്ന് അവർ കൈകാര്യം ചെയ്യുന്ന കേസുകളുടെ വിവിധ വശങ്ങളെ സംബന്ധിക്കുന്ന വിവരങ്ങൾ ശേഖരിക്കുന്നു.

നിയമസഹായം നൽകുന്നതിനുള്ള അഭിഭാഷകരുടെ പട്ടിക പുതുക്കുന്നത് :-

1. എല്ലാ വർഷവും
2. മൂന്ന് വർഷം കൂടുമ്പോൾ
3. 5 വർഷത്തിലൊരിക്കൽ
4. 2 വർഷത്തിലൊരിക്കൽ

**Options :**

- 485584135505. 1
- 485584135506. 2
- 485584135507. 3
- 485584135508. 4

**Question Number : 243 Question Id : 48558433878 Question Type : MCQ Option Shuffling : No Is Question Mandatory : No Calculator : None Response Time : N.A Think Time : N.A Minimum Instruction Time : 0**

**Correct Marks : 5 Wrong Marks : 1**

**Question Key Details :**

Key	Value
Comprehension	Comp1

Read the passage and answer the following questions:-

"In 2010, the National Legal Services Authority of India (NALSA) adopted the National Legal Service Authority (Free and Competent Legal Services) Regulations in exercise of its power under Section 29 of Legal Service Authorities Act, 1987. The regulations are applicable to Legal Service Committees of the Supreme Court, High Courts, the States, districts and taluks. The legal service institution is vested with authority to invite applications from legal practitioners with requisite experience to indicate the type of cases they are entrusted with."

For legal aid, services of senior lawyers can be availed only in

1. Murder cases
2. where there is threat to life and liberty of the applicant
3. financial matter
4. court martial

**Options :**

- 485584135509. 1
- 485584135510. 2
- 485584135511. 3
- 485584135512. 4

**Question Number : 243 Question Id : 48558433878 Question Type : MCQ Option Shuffling : No Is Question Mandatory : No Calculator : None Response Time : N.A Think Time : N.A Minimum Instruction Time : 0**

**Correct Marks : 5 Wrong Marks : 1**

**Question Key Details :**

Key	Value
Comprehension	Comp1

ഖണ്ഡിക വായിച്ച് തന്നിരിക്കുന്ന ചോദ്യങ്ങൾക്ക് ഉത്തരമെഴുതുക.

2010 ൽ നാഷണൽ ലീഗൽ സർവ്വീസ് അതോറിറ്റി ഓഫ് ഇന്ത്യ, 1987 ലെ ലീഗൽ സർവ്വീസ് അതോറിറ്റിസ് ആക്ടിന്റെ സെക്ഷൻ 29 ലെ അധികാരം ഉപയോഗിച്ച്, നാഷണൽ ലീഗൽ സർവ്വീസ് അതോറിറ്റി റെഗുലേഷൻസ് പാസ്സാക്കി. ഈ റെഗുലേഷൻസ് സുപ്രീം കോടതിക്കും, ഹൈക്കോടതിക്കും, സംസ്ഥാന, ജില്ലാ താലൂക്ക് തല ലീഗൽ സർവ്വീസസ് കമ്മീഷൻ, ആവശ്യമായ അനുഭവങ്ങൾ പരിജ്ഞാനമുള്ള അഭിഭാഷകരിൽ നിന്ന് അവർ കൈകാര്യം ചെയ്യുന്ന കേസുകളുടെ വിവിധ വശങ്ങളെ സംബന്ധിക്കുന്ന വിവരങ്ങൾ ശേഖരിക്കുന്നു.

സീനിയർ അഭിഭാഷകരുടെ നിയമസഹായം ലഭിക്കാവുന്നത് \_\_\_\_\_ കേസുകളിൽ മാത്രമാണ്.

1. കൊലപാതക കേസുകളിൽ
2. അപേക്ഷകന്റെ ജീവനോ സ്വാതന്ത്ര്യത്തിനോ ഭീഷണിയുള്ള കേസുകളിൽ
3. ധലകാര്യ പ്രശ്നങ്ങളിൽ
4. കോർട്ട് മാർഷ്യൽ കേസുകളിൽ

**Options :**

- 485584135509. 1
- 485584135510. 2
- 485584135511. 3
- 485584135512. 4

**Question Number : 244 Question Id : 48558433879 Question Type : MCQ Option Shuffling : No Is Question Mandatory : No Calculator : None Response Time : N.A Think Time : N.A Minimum Instruction Time : 0**

**Correct Marks : 5 Wrong Marks : 1**

**Question Key Details :**

Key	Value
Comprehension	Comp1

Read the passage and answer the following questions:-

"In 2010, the National Legal Services Authority of India (NALSA) adopted the National Legal Service Authority (Free and Competent Legal Services) Regulations in exercise of its power under Section 29 of Legal Service Authorities Act, 1987. The regulations are applicable to Legal Service Committees of the Supreme Court, High Courts, the States, districts and taluks. The legal service institution is vested with authority to invite applications from legal practitioners with requisite experience to indicate the type of cases they are entrusted with."

Panel lawyers are paid fee in accordance with

1. State regulations
2. BCI norms
3. Central government scale
4. UGC norms

Options :

- 485584135513. 1
- 485584135514. 2
- 485584135515. 3
- 485584135516. 4

Question Number : 244 Question Id : 48558433879 Question Type : MCQ Option Shuffling : No Is Question Mandatory : No Calculator : None Response Time : N.A Think Time : N.A Minimum Instruction Time : 0

Correct Marks : 5 Wrong Marks : 1

Question Key Details :

Key	Value
Comprehension	Compl

ഖണ്ഡിക വായിച്ച് തന്നിരിക്കുന്ന ചോദ്യങ്ങൾക്ക് ഉത്തരമെഴുതുക.

2010 ൽ നാഷണൽ ലീഗൽ സർവ്വീസ് അതോറിറ്റി ഓഫ് ഇന്ത്യ, 1987 ലെ ലീഗൽ സർവ്വീസ് അതോറിറ്റിസ് ആക്ടിന്റെ സെക്ഷൻ 29 ലെ അധികാരം ഉപയോഗിച്ച്, നാഷണൽ ലീഗൽ സർവ്വീസ് അതോറിറ്റി റെഗുലേഷൻസ് പാസ്സാക്കി. ഈ റെഗുലേഷൻസ് സുപ്രീം കോടതിക്കും, ഹൈക്കോടതിക്കും, സംസ്ഥാന, ജില്ലാ താലൂക്ക് തല ലീഗൽ സർവ്വീസ് കമ്മീഷൻ, ആവശ്യമായ അനുഭവങ്ങൾ പരിജ്ഞാനമുള്ള അഭിഭാഷകരിൽ നിന്ന് അവർ കൈകാര്യം ചെയ്യുന്ന കേസുകളുടെ വിവിധ വശങ്ങളെ സംബന്ധിക്കുന്ന വിവരങ്ങൾ ശേഖരിക്കുന്നു.

പട്ടികയിൽ ഉൾപ്പെട്ട അഭിഭാഷകർക്കുള്ള ഫീസ് നൽകുന്നത് :-

1. സംസ്ഥാന റെഗുലേഷൻസ് പ്രകാരം
2. ബി.സി.ഐ (BCI) ചട്ടങ്ങൾ പ്രകാരം
3. കേന്ദ്ര ഗവൺമെന്റ് സ്കെയിൽ
4. യു.ജി.സി ചട്ടപ്രകാരം

Options :

- 485584135513. 1
- 485584135514. 2
- 485584135515. 3
- 485584135516. 4

Question Number : 245 Question Id : 48558433880 Question Type : MCQ Option Shuffling : No Is Question Mandatory : No Calculator : None Response Time : N.A Think Time : N.A Minimum Instruction Time : 0

Correct Marks : 5 Wrong Marks : 1

Question Key Details :

Key	Value
-----	-------



Comprehension	Comp1
---------------	-------

Read the passage and answer the following questions:-

"In 2010, the National Legal Services Authority of India (NALSA) adopted the National Legal Service Authority (Free and Competent Legal Services) Regulations in exercise of its power under Section 29 of Legal Service Authorities Act, 1987. The regulations are applicable to Legal Service Committees of the Supreme Court, High Courts, the States, districts and taluks. The legal service institution is vested with authority to invite applications from legal practitioners with requisite experience to indicate the type of cases they are entrusted with."

Pre-litigation legal services include:

1. Legal education
2. Arbitration
3. Out of court settlement
4. appearance before judge

Options :

- 485584135517. 1
- 485584135518. 2
- 485584135519. 3
- 485584135520. 4

Question Number : 245 Question Id : 48558433880 Question Type : MCQ Option Shuffling : No Is Question Mandatory : No Calculator : None Response Time : N.A Think Time : N.A Minimum Instruction Time : 0

Correct Marks : 5 Wrong Marks : 1

Question Key Details :

Key	Value
Comprehension	Comp1

ഖണ്ഡിക വായിച്ച് തന്നിരിക്കുന്ന ചോദ്യങ്ങൾക്ക് ഉത്തരമെഴുതുക.

2010 ൽ നാഷണൽ ലീഗൽ സർവ്വീസ് അതോറിറ്റി ഓഫ് ഇന്ത്യ, 1987 ലെ ലീഗൽ സർവ്വീസ് അതോറിറ്റിസ് ആക്ടിന്റെ സെക്ഷൻ 29 ലെ അധികാരം ഉപയോഗിച്ച്, നാഷണൽ ലീഗൽ സർവ്വീസ് അതോറിറ്റി റെഗുലേഷൻസ് പാസ്സാക്കി. ഈ റെഗുലേഷൻസ് സുപ്രീം കോടതിക്കും, ഹൈക്കോടതിക്കും, സംസ്ഥാന, ജില്ലാ താലൂക്ക് തല ലീഗൽ സർവ്വീസസ് കമ്മീഷൻ, ആവശ്യമായ അനുഭവങ്ങൾ പരിജ്ഞാനമുള്ള അഭിഭാഷകരിൽ നിന്ന് അവർ കൈകാര്യം ചെയ്യുന്ന കേസുകളുടെ വിവിധ വശങ്ങളെ സംബന്ധിക്കുന്ന വിവരങ്ങൾ ശേഖരിക്കുന്നു.

കോടതി വ്യവഹാരത്തിന് പുറത്തുള്ള നിയമ സേവനങ്ങളിൽ ഉൾപ്പെടുന്നത് :-

1. നിയമ വിദ്യാഭ്യാസം
2. മാധ്യസ്ഥം
3. കോടതിക്ക് പുറത്തുള്ള സെറ്റിൽമെന്റ്
4. ജഡ്ജിക്ക് മുമ്പിൽ ഹാജരാകൽ

**Options :**

- 485584135517. 1
- 485584135518. 2
- 485584135519. 3
- 485584135520. 4

**Sub-Section Number :** 3  
**Sub-Section Id :** 4855842433  
**Question Shuffling Allowed :** No  
**Is Section Default? :** null

**Question Number : 246 Question Id : 48558433881 Question Type : MCQ Option Shuffling : No Is Question Mandatory : No Calculator : None Response Time : N.A Think Time : N.A Minimum Instruction Time : 0**

**Correct Marks : 5 Wrong Marks : 1**

**Question Key Details :**

Key	Value
Comprehension	Comp2

The quasi-judicial bodies typically are public administrative agencies under the realm of the executive branch and are largely bestowed with authority similar to courts. These bodies have the power to resolve disputes and also impose punishments. Examples of quasi-judicial institutions include, national and state human rights commissions, consumer redressal forums and commissions, income tax tribunals, and so on. Some of these bodies relating specifically to human rights institutions that include, the National Human Rights Commission, National Commission for Minorities, National Commission for Women, National Commission for Scheduled Castes and the National Commission for Scheduled Tribes. These commissions are independent or autonomous and transparent bodies that are created under specific legislations to promote and protect human rights; for example, the National and State Human Rights Commissions are governed by the Protection of Human Rights Act, 1993. National commissions have jurisdiction over the entire nation and the parallel state commission take matters of human rights violations from the respective states.

The functioning of Quasi judicial bodies is similar to

1. Parliament
2. Judges
3. Magistrate
4. Courts

**Options :**

- 485584135521. 1
- 485584135522. 2
- 485584135523. 3
- 485584135524. 4

**Question Number : 246 Question Id : 48558433881 Question Type : MCQ Option Shuffling : No Is Question Mandatory : No Calculator : None Response Time : N.A Think Time : N.A Minimum Instruction Time : 0**

**Correct Marks : 5 Wrong Marks : 1**

**Question Key Details :**

Key	Value
Comprehension	Comp2

കോടതികൾക്ക് സമാനമായ അധികാരമുള്ള പൊതുഭരണ സംവിധാനങ്ങളാണ് അർദ്ധ-ജൂഡീഷ്യൽ സ്ഥാപനങ്ങൾ. അവ ഗവൺമെന്റിന്റെ എക്സിക്യൂട്ടീവ് ശാഖയുടെ ഭാഗമാണ്. ഇവക്ക് തീർക്കേണ്ട പരിഹരിക്കുന്നതിനും ശിക്ഷകൾ നൽകുന്നതിനുമുള്ള അധികാരമുണ്ട്. വരുമാന നികുതി ട്രിബ്യൂണലുകൾ, ഉപഭോക്തൃ കോടതികൾ, ദേശീയ-സംസ്ഥാന മനുഷ്യാവകാശ കമ്മീഷനുകൾ എന്നിവയെല്ലാം അർദ്ധ-ജൂഡീഷ്യൽ സ്ഥാപനങ്ങൾക്ക് ഉദാഹരണങ്ങളാണ്. ഇവയിൽ പലതും മനുഷ്യാവകാശവുമായി ബന്ധപ്പെട്ട സ്ഥാപനങ്ങളാണ്. ദേശീയ മനുഷ്യാവകാശ കമ്മീഷൻ, ദേശീയ ന്യൂനപക്ഷ കമ്മീഷൻ, ദേശീയ വനിതാ കമ്മീഷൻ, ദേശീയ പട്ടികജാതി കമ്മീഷൻ, ദേശീയ പട്ടിക വർഗ്ഗ കമ്മീഷൻ എന്നിവ ഇതിന് ഉദാഹരണങ്ങളാണ്. മനുഷ്യാവകാശങ്ങൾ സംരക്ഷിക്കുന്നതിനും പ്രോത്സാഹിപ്പിക്കുന്നതിനുമായി സ്ഥാപിക്കപ്പെട്ട ഈ കമ്മീഷനുകൾ സ്വതന്ത്രവും സുതാര്യവുമായ സംവിധാനങ്ങളാണ്. സവിശേഷമായ ചില നിയമങ്ങളുടെ അടിസ്ഥാനത്തിലാണ് ഇവ രൂപീകരിക്കപ്പെടുന്നത്. ഉദാഹരണത്തിന്, 1993 ലെ മനുഷ്യാവകാശ സംരക്ഷണ നിയമത്തിന്റെ അടിസ്ഥാനത്തിലാണ് ദേശീയ - സംസ്ഥാന മനുഷ്യാവകാശ കമ്മീഷനുകൾ പ്രവർത്തിക്കുന്നത്. ദേശീയ കമ്മീഷനുകളുടെ അധികാരപരിധി രാഷ്ട്രത്തിലെമ്പാടുംമാണ്. സംസ്ഥാനങ്ങൾക്ക് അതാത് സംസ്ഥാനങ്ങളിൽ മാത്രമാണ് അധികാരമുള്ളത്.

താഴെ കൊടുത്തിട്ടുള്ളവയിൽ ഏതിന് സമാനമായാണ് അർദ്ധ ജൂഡീഷ്യൽ സ്ഥാപനങ്ങൾ പ്രവർത്തിക്കുന്നത് ?

1. പാർലമെന്റ്
2. ജഡ്ജിമാർ
3. മജിസ്ട്രേറ്റ്
4. കോടതികൾ

**Options :**

- 485584135521. 1
- 485584135522. 2
- 485584135523. 3
- 485584135524. 4

**Question Number : 247 Question Id : 48558433882 Question Type : MCQ Option Shuffling : No Is Question Mandatory : No Calculator : None Response Time : N.A Think Time : N.A Minimum Instruction Time : 0**

**Correct Marks : 5 Wrong Marks : 1**

**Question Key Details :**

Key	Value
Comprehension	Comp2

The quasi-judicial bodies typically are public administrative agencies under the realm of the executive branch and are largely bestowed with authority similar to courts. These bodies have the power to resolve disputes and also impose punishments. Examples of quasi-judicial institutions include, national and state human rights commissions, consumer redressal forums and commissions, income tax tribunals, and so on. Some of these bodies relating specifically to human rights institutions that include, the National Human Rights Commission, National Commission for Minorities, National Commission for Women, National Commission for Scheduled Castes and the National Commission for Scheduled Tribes. These commissions are independent or autonomous and transparent bodies that are created under specific legislations to promote and protect human rights; for example, the National and State Human Rights Commissions are governed by the Protection of Human Rights Act, 1993. National commissions have jurisdiction over the entire nation and the parallel state commission take matters of human rights violations from the respective states.

Which one of the following is not a Quasi judicial body

1. Human Rights Commission
2. Consumer Forums
3. Income Tax Tribunals
4. Parliament

Options :

485584135525. 1
485584135526. 2
485584135527. 3
485584135528. 4

Question Number : 247 Question Id : 48558433882 Question Type : MCQ Option Shuffling : No Is Question Mandatory : No Calculator : None Response Time : N.A Think Time : N.A Minimum Instruction Time : 0

Correct Marks : 5 Wrong Marks : 1

Question Key Details :

Key	Value
Comprehension	Comp2

കോടതികൾക്ക് സമാനമായ അധികാരമുള്ള പൊതുഭരണ സംവിധാനങ്ങളാണ് അർദ്ധ-ജുഡീഷ്യൽ സ്ഥാപനങ്ങൾ. അവ ഗവൺമെന്റിന്റെ എക്സിക്യൂട്ടീവ് ശാഖയുടെ ഭാഗമാണ്. ഇവക്ക് തീർക്കേണ്ട പരിഹരിക്കുന്നതിനും ശിക്ഷകൾ നൽകുന്നതിനുമുള്ള അധികാരമുണ്ട്. വരുമാന നികുതി ട്രിബ്യൂണലുകൾ, ഉപഭോക്തൃ കോടതികൾ, ദേശീയ-സംസ്ഥാന മനുഷ്യാവകാശ കമ്മീഷനുകൾ എന്നിവയെല്ലാം അർദ്ധ-ജുഡീഷ്യൽ സ്ഥാപനങ്ങൾക്ക് ഉദാഹരണങ്ങളാണ്. ഇവയിൽ പലതും മനുഷ്യാവകാശവുമായി ബന്ധപ്പെട്ട സ്ഥാപനങ്ങളാണ്. ദേശീയ മനുഷ്യാവകാശ കമ്മീഷൻ, ദേശീയ ന്യൂനപക്ഷ കമ്മീഷൻ, ദേശീയ വനിതാ കമ്മീഷൻ, ദേശീയ പട്ടികജാതി കമ്മീഷൻ, ദേശീയ പട്ടിക വർഗ്ഗ കമ്മീഷൻ എന്നിവ ഇതിന് ഉദാഹരണങ്ങളാണ്. മനുഷ്യാവകാശങ്ങൾ സംരക്ഷിക്കുന്നതിനും പ്രോത്സാഹിപ്പിക്കുന്നതിനുമായി സ്ഥാപിക്കപ്പെട്ട ഈ കമ്മീഷനുകൾ സ്വതന്ത്രവും സുതാര്യവുമായ സംവിധാനങ്ങളാണ്. സവിശേഷമായ ചില നിയമങ്ങളുടെ അടിസ്ഥാനത്തിലാണ് ഇവ രൂപീകരിക്കപ്പെടുന്നത്. ഉദാഹരണത്തിന്, 1993 ലെ മനുഷ്യാവകാശ സംരക്ഷണ നിയമത്തിന്റെ അടിസ്ഥാനത്തിലാണ് ദേശീയ - സംസ്ഥാന മനുഷ്യാവകാശ കമ്മീഷനുകൾ പ്രവർത്തിക്കുന്നത്. ദേശീയ കമ്മീഷനുകളുടെ അധികാരപരിധി രാഷ്ട്രത്തിലെമ്പാടുംമാണ്. സംസ്ഥാനങ്ങൾക്ക് അതാത് സംസ്ഥാനങ്ങളിൽ മാത്രമാണ് അധികാരമുള്ളത്.

താഴെ കൊടുത്തിട്ടുള്ളവയിൽ അർദ്ധ ജുഡീഷ്യൽ സ്ഥാപനം അല്ലാത്തതേത് ?

1. മനുഷ്യാവകാശ കമ്മീഷൻ
2. ഉപഭോക്തൃ ഫോറങ്ങൾ
3. വരുമാന നികുതി ട്രിബ്യൂണലുകൾ
4. പാർലമെന്റ്

Options :

485584135525. 1
485584135526. 2
485584135527. 3
485584135528. 4

**Question Number : 248 Question Id : 48558433883 Question Type : MCQ Option Shuffling : No Is Question Mandatory : No Calculator : None Response Time : N.A Think Time : N.A Minimum Instruction Time : 0**

**Correct Marks : 5 Wrong Marks : 1**

**Question Key Details :**

Key	Value
Comprehension	Comp2

The quasi-judicial bodies typically are public administrative agencies under the realm of the executive branch and are largely bestowed with authority similar to courts. These bodies have the power to resolve disputes and also impose punishments. Examples of quasi-judicial institutions include, national and state human rights commissions, consumer redressal forums and commissions, income tax tribunals, and so on. Some of these bodies relating specifically to human rights institutions that include, the National Human Rights Commission, National Commission for Minorities, National Commission for Women, National Commission for Scheduled Castes and the National Commission for Scheduled Tribes. These commissions are independent or autonomous and transparent bodies that are created under specific legislations to promote and protect human rights; for example, the National and State Human Rights Commissions are governed by the Protection of Human Rights Act, 1993. National commissions have jurisdiction over the entire nation and the parallel state commission take matters of human rights violations from the respective states.

The National Human Rights Commission is enacted to protect

1. Geographical Rights
2. Human Rights
3. Patent Rights
4. Copyright Rights

**Options :**

- 485584135529. 1
- 485584135530. 2
- 485584135531. 3
- 485584135532. 4

**Question Number : 248 Question Id : 48558433883 Question Type : MCQ Option Shuffling : No Is Question Mandatory : No Calculator : None Response Time : N.A Think Time : N.A Minimum Instruction Time : 0**

**Correct Marks : 5 Wrong Marks : 1**

**Question Key Details :**

Key	Value
Comprehension	Comp2

കോടതികൾക്ക് സമാനമായ അധികാരമുള്ള പൊതുഭരണ സംവിധാനങ്ങളാണ് അർദ്ധ-ജുഡീഷ്യൽ സ്ഥാപനങ്ങൾ. അവ ഗവൺമെന്റിന്റെ എക്സിക്യൂട്ടീവ് ശാഖയുടെ ഭാഗമാണ്. ഇവക്ക് തീർക്കേണ്ട പരിഹരിക്കുന്നതിനും ശിക്ഷകൾ നൽകുന്നതിനുമുള്ള അധികാരമുണ്ട്. വരുമാന നികുതി ട്രിബ്യൂണലുകൾ, ഉപഭോക്തൃ കോടതികൾ, ദേശീയ-സംസ്ഥാന മനുഷ്യാവകാശ കമ്മീഷനുകൾ എന്നിവയെല്ലാം അർദ്ധ-ജുഡീഷ്യൽ സ്ഥാപനങ്ങൾക്ക് ഉദാഹരണങ്ങളാണ്. ഇവയിൽ പലതും മനുഷ്യാവകാശവുമായി ബന്ധപ്പെട്ട സ്ഥാപനങ്ങളാണ്. ദേശീയ മനുഷ്യാവകാശ കമ്മീഷൻ, ദേശീയ ന്യൂനപക്ഷ കമ്മീഷൻ, ദേശീയ വനിതാ കമ്മീഷൻ, ദേശീയ പട്ടികജാതി കമ്മീഷൻ, ദേശീയ പട്ടിക വർഗ്ഗ കമ്മീഷൻ എന്നിവ ഇതിന് ഉദാഹരണങ്ങളാണ്. മനുഷ്യാവകാശങ്ങൾ സംരക്ഷിക്കുന്നതിനും പ്രോത്സാഹിപ്പിക്കുന്നതിനുമായി സ്ഥാപിക്കപ്പെട്ട ഈ കമ്മീഷനുകൾ സ്വതന്ത്രവും സുതാര്യവുമായ സംവിധാനങ്ങളാണ്. സവിശേഷമായ ചില നിയമങ്ങളുടെ അടിസ്ഥാനത്തിലാണ് ഇവ രൂപീകരിക്കപ്പെടുന്നത്. ഉദാഹരണത്തിന്, 1993 ലെ മനുഷ്യാവകാശ സംരക്ഷണ നിയമത്തിന്റെ അടിസ്ഥാനത്തിലാണ് ദേശീയ - സംസ്ഥാന മനുഷ്യാവകാശ കമ്മീഷനുകൾ പ്രവർത്തിക്കുന്നത്. ദേശീയ കമ്മീഷനുകളുടെ അധികാരപരിധി രാഷ്ട്രത്തിലെമ്പാടുംമാണ്. സംസ്ഥാനങ്ങൾക്ക് അതാത് സംസ്ഥാനങ്ങളിൽ മാത്രമാണ് അധികാരമുള്ളത്

ദേശീയ മനുഷ്യാവകാശ കമ്മീഷൻ പ്രവർത്തിക്കുന്നത് എന്ത് സംരക്ഷിക്കുന്നതിനാണ് ?

1. ഭൂമി സംബന്ധമായ അവകാശങ്ങൾ
2. മനുഷ്യാവകാശങ്ങൾ
3. പേറ്റന്റ് അവകാശങ്ങൾ
4. കോപ്പിറൈറ്റ് സംബന്ധിച്ച അവകാശങ്ങൾ

**Options :**

- 485584135529. 1
- 485584135530. 2
- 485584135531. 3
- 485584135532. 4

**Question Number : 249 Question Id : 48558433884 Question Type : MCQ Option Shuffling : No Is Question Mandatory : No Calculator : None Response Time : N.A Think Time : N.A Minimum Instruction Time : 0**

**Correct Marks : 5 Wrong Marks : 1**

**Question Key Details :**

Key	Value
Comprehension	Comp2

The quasi-judicial bodies typically are public administrative agencies under the realm of the executive branch and are largely bestowed with authority similar to courts. These bodies have the power to resolve disputes and also impose punishments. Examples of quasi-judicial institutions include, national and state human rights commissions, consumer redressal forums and commissions, income tax tribunals, and so on. Some of these bodies relating specifically to human rights institutions that include, the National Human Rights Commission, National Commission for Minorities, National Commission for Women, National Commission for Scheduled Castes and the National Commission for Scheduled Tribes. These commissions are independent or autonomous and transparent bodies that are created under specific legislations to promote and protect human rights; for example, the National and State Human Rights Commissions are governed by the Protection of Human Rights Act, 1993. National commissions have jurisdiction over the entire nation and the parallel state commission take matters of human rights violations from the respective states.

The State Human Rights Commission is subordinate to

1. Competition Commission of India
2. Supreme Court of India
3. High Court of the state
4. National Human Rights Commission

**Options :**

- 485584135533. 1
- 485584135534. 2
- 485584135535. 3
- 485584135536. 4

**Question Number : 249 Question Id : 48558433884 Question Type : MCQ Option Shuffling : No Is Question Mandatory : No Calculator : None Response Time : N.A Think Time : N.A Minimum Instruction Time : 0**

**Correct Marks : 5 Wrong Marks : 1**

**Question Key Details :**

Key	Value
Comprehension	Comp2

കോടതികൾക്ക് സമാനമായ അധികാരമുള്ള പൊതുഭരണ സംവിധാനങ്ങളാണ് അർദ്ധ-ജുഡീഷ്യൽ സ്ഥാപനങ്ങൾ. അവ ഗവൺമെന്റിന്റെ എക്സിക്യൂട്ടീവ് ശാഖയുടെ ഭാഗമാണ്. ഇവക്ക് തർക്കങ്ങൾ പരിഹരിക്കുന്നതിനും ശിക്ഷകൾ നൽകുന്നതിനുമുള്ള അധികാരമുണ്ട്. വരുമാന നികുതി ട്രിബ്യൂണലുകൾ, ഉപഭോക്തൃ കോടതികൾ, ദേശീയ-സംസ്ഥാന മനുഷ്യാവകാശ കമ്മീഷനുകൾ എന്നിവയെല്ലാം അർദ്ധ-ജുഡീഷ്യൽ സ്ഥാപനങ്ങൾക്ക് ഉദാഹരണങ്ങളാണ്. ഇവയിൽ പലതും മനുഷ്യാവകാശവുമായി ബന്ധപ്പെട്ട സ്ഥാപനങ്ങളാണ്. ദേശീയ മനുഷ്യാവകാശ കമ്മീഷൻ, ദേശീയ ന്യൂനപക്ഷ കമ്മീഷൻ, ദേശീയ വനിതാ കമ്മീഷൻ, ദേശീയ പട്ടികജാതി കമ്മീഷൻ, ദേശീയ പട്ടിക വർഗ്ഗ കമ്മീഷൻ എന്നിവ ഇതിന് ഉദാഹരണങ്ങളാണ്. മനുഷ്യാവകാശങ്ങൾ സംരക്ഷിക്കുന്നതിനും പ്രോത്സാഹിപ്പിക്കുന്നതിനുമായി സ്ഥാപിക്കപ്പെട്ട ഈ കമ്മീഷനുകൾ സ്വതന്ത്രവും സുതാര്യവുമായ സംവിധാനങ്ങളാണ്. സവിശേഷമായ ചില നിയമങ്ങളുടെ അടിസ്ഥാനത്തിലാണ് ഇവ രൂപീകരിക്കപ്പെടുന്നത്. ഉദാഹരണത്തിന്, 1993 ലെ മനുഷ്യാവകാശ സംരക്ഷണ നിയമത്തിന്റെ അടിസ്ഥാനത്തിലാണ് ദേശീയ - സംസ്ഥാന മനുഷ്യാവകാശ കമ്മീഷനുകൾ പ്രവർത്തിക്കുന്നത്. ദേശീയ കമ്മീഷനുകളുടെ അധികാരപരിധി രാഷ്ട്രത്തിലെമ്പാടുംമാണ്. സംസ്ഥാനങ്ങൾക്ക് അതാത് സംസ്ഥാനങ്ങളിൽ മാത്രമാണ് അധികാരമുള്ളത്.

സംസ്ഥാന മനുഷ്യാവകാശ കമ്മീഷൻ താഴെ കൊടുത്തിട്ടുള്ളതിൽ എതിന് കീഴിലാണ് ?

1. കോമ്പറ്റീഷൻ കമ്മീഷൻ ഓഫ് ഇന്ത്യ
2. ഇന്ത്യൻ സുപ്രീം കോടതി
3. സംസ്ഥാന ഹൈക്കോടതി
4. ദേശീയ മനുഷ്യാവകാശ കമ്മീഷൻ

**Options :**

- 485584135533. 1
- 485584135534. 2
- 485584135535. 3

**Question Number : 250 Question Id : 48558433885 Question Type : MCQ Option Shuffling : No Is Question Mandatory : No Calculator : None Response Time : N.A Think Time : N.A Minimum Instruction Time : 0**

**Correct Marks : 5 Wrong Marks : 1**

**Question Key Details :**

Key	Value
Comprehension	Comp2

The quasi-judicial bodies typically are public administrative agencies under the realm of the executive branch and are largely bestowed with authority similar to courts. These bodies have the power to resolve disputes and also impose punishments. Examples of quasi-judicial institutions include, national and state human rights commissions, consumer redressal forums and commissions, income tax tribunals, and so on. Some of these bodies relating specifically to human rights institutions that include, the National Human Rights Commission, National Commission for Minorities, National Commission for Women, National Commission for Scheduled Castes and the National Commission for Scheduled Tribes. These commissions are independent or autonomous and transparent bodies that are created under specific legislations to promote and protect human rights; for example, the National and State Human Rights Commissions are governed by the Protection of Human Rights Act, 1993. National commissions have jurisdiction over the entire nation and the parallel state commission take matters of human rights violations from the respective states.

The National and State Human Rights Commission are governed under \_\_\_\_\_.

1. Environment Protection Act, 1986
2. Protection of Human Rights Act, 1993
3. Consumer of Protection Act, 2019
4. Protection of Civil Rights Act, 1955

**Options :**

485584135537. 1  
 485584135538. 2  
 485584135539. 3  
 485584135540. 4

**Question Number : 250 Question Id : 48558433885 Question Type : MCQ Option Shuffling : No Is Question Mandatory : No Calculator : None Response Time : N.A Think Time : N.A Minimum Instruction Time : 0**

**Correct Marks : 5 Wrong Marks : 1**

**Question Key Details :**

Key	Value
Comprehension	Comp2



കോടതികൾക്ക് സമാനമായ അധികാരമുള്ള പൊതുഭരണ സംവിധാനങ്ങളാണ് അർദ്ധ-ജൂഡീഷ്യൽ സ്ഥാപനങ്ങൾ. അവ ഗവൺമെന്റിന്റെ എക്സിക്യൂട്ടീവ് ശാഖയുടെ ഭാഗമാണ്. ഇവക്ക് തീർക്കേണ്ട പരിഹരിക്കുന്നതിനും ശിക്ഷകൾ നൽകുന്നതിനുമുള്ള അധികാരമുണ്ട്. വരുമാന നികുതി ട്രിബ്യൂണലുകൾ, ഉപഭോക്തൃ കോടതികൾ, ദേശീയ-സംസ്ഥാന മനുഷ്യാവകാശ കമ്മീഷനുകൾ എന്നിവയെല്ലാം അർദ്ധ-ജൂഡീഷ്യൽ സ്ഥാപനങ്ങൾക്ക് ഉദാഹരണങ്ങളാണ്. ഇവയിൽ പലതും മനുഷ്യാവകാശവുമായി ബന്ധപ്പെട്ട സ്ഥാപനങ്ങളാണ്. ദേശീയ മനുഷ്യാവകാശ കമ്മീഷൻ, ദേശീയ ന്യൂനപക്ഷ കമ്മീഷൻ, ദേശീയ വനിതാ കമ്മീഷൻ, ദേശീയ പട്ടികജാതി കമ്മീഷൻ, ദേശീയ പട്ടിക വർഗ്ഗ കമ്മീഷൻ എന്നിവ ഇതിന് ഉദാഹരണങ്ങളാണ്. മനുഷ്യാവകാശങ്ങൾ സംരക്ഷിക്കുന്നതിനും പ്രോത്സാഹിപ്പിക്കുന്നതിനുമായി സ്ഥാപിക്കപ്പെട്ട ഈ കമ്മീഷനുകൾ സ്വതന്ത്രവും സുതാര്യവുമായ സംവിധാനങ്ങളാണ്. സവിശേഷമായ ചില നിയമങ്ങളുടെ അടിസ്ഥാനത്തിലാണ് ഇവ രൂപീകരിക്കപ്പെടുന്നത്. ഉദാഹരണത്തിന്, 1993 ലെ മനുഷ്യാവകാശ സംരക്ഷണ നിയമത്തിന്റെ അടിസ്ഥാനത്തിലാണ് ദേശീയ - സംസ്ഥാന മനുഷ്യാവകാശ കമ്മീഷനുകൾ പ്രവർത്തിക്കുന്നത്. ദേശീയ കമ്മീഷനുകളുടെ അധികാരപരിധി രാഷ്ട്രത്തിലെമ്പാടുംമാണ്. സംസ്ഥാനങ്ങൾക്ക് അതാത് സംസ്ഥാനങ്ങളിൽ മാത്രമാണ് അധികാരമുള്ളത്

ദേശീയ-സംസ്ഥാന മനുഷ്യാവകാശ കമ്മീഷനുകൾ പ്രവർത്തിക്കുന്നത് താഴെ കൊടുത്തിട്ടുള്ളവയിൽ ഏത് നിയമത്തിന്റെ അടിസ്ഥാനത്തിലാണ് ?

1. പരിസ്ഥിതി സംരക്ഷണ നിയമം, 1986
2. മനുഷ്യാവകാശ സംരക്ഷണ നിയമം, 1993
3. ഉപഭോക്തൃ സംരക്ഷണ നിയമം, 2019
4. പൗരാവകാശ സംരക്ഷണ നിയമം, 1955

**Options :**

- 485584135537. 1
- 485584135538. 2
- 485584135539. 3
- 485584135540. 4

**Performing Arts**

<b>Group Number :</b>	10
<b>Group Id :</b>	485584748
<b>Group Maximum Duration :</b>	45
<b>Group Minimum Duration :</b>	45
<b>Show Attended Group? :</b>	No
<b>Edit Attended Group? :</b>	No
<b>Break time :</b>	0
<b>Group Marks :</b>	200
<b>Is this Group for Examiner? :</b>	No
<b>Examiner permission :</b>	Cant View
<b>Show Progress Bar? :</b>	No

**Compulsory**

<b>Section Id :</b>	485584862
<b>Section Number :</b>	1
<b>Section type :</b>	Online

<b>Mandatory or Optional :</b>	Mandatory
<b>Number of Questions :</b>	20
<b>Number of Questions to be attempted :</b>	20
<b>Section Marks :</b>	100
<b>Enable Mark as Answered Mark for Review and Clear Response :</b>	Yes
<b>Maximum Instruction Time :</b>	0
<b>Sub-Section Number :</b>	1
<b>Sub-Section Id :</b>	4855842434
<b>Question Shuffling Allowed :</b>	No
<b>Is Section Default? :</b>	null

**Question Number : 251 Question Id : 48558433616 Question Type : MCQ Option Shuffling : No Is Question Mandatory : No Calculator : None Response Time : N.A Think Time : N.A Minimum Instruction Time : 0**

**Correct Marks : 5 Wrong Marks : 1**

**Question Key Details :**

Key	Value
Comprehension	Comp1

Read the paragraph and answer the following questions:

Raga has been manifested through Anibaddha and Nibaddha. Anibaddha refers to free extempore development of a raga. In ancient period, it was done under the concept of Alapti. Alapti is of two types - Ragalapti and Rupkalapti. alapti is governed by Svasthana. there are four types of Svasthana known as Prathama, Dvitya, Tritiya and Chaturtha Svasthana. Rupkalapti is done in two steps, that is, Pratigrahanika and Bhanjani. Bhanjani can further be done in two ways which are Sthaya Bhanjani and Rupak Bhanjani.

Anibaddha is :

1. A composition fixed to Tala
2. A free extempore development of a raga
3. A composition set to Teental
4. A development of a raga with Tanas set to Tala

**Options :**

485584134461. 1  
485584134462. 2  
485584134463. 3  
485584134464. 4

**Question Number : 251 Question Id : 48558433616 Question Type : MCQ Option Shuffling : No Is Question Mandatory : No Calculator : None Response Time : N.A Think Time : N.A Minimum Instruction Time : 0**

**Correct Marks : 5 Wrong Marks : 1**

**Question Key Details :**

Key	Value
Comprehension	Comp1

ചുവടെ ചേർത്തിരിക്കുന്ന ഖണ്ഡിക വായിച്ച്, താഴെ പറയുന്ന ചോദ്യങ്ങൾക്ക് ഉത്തരം നൽകുക

അനിബദ്ധത്തിലൂടെയും നിബദ്ധത്തിലൂടെയും ആണ് രാഗവിസ്താരം നടത്തുന്നത്. അനിബദ്ധ എന്നത് ഒരു രാഗത്തിന്റെ സ്വതന്ത്ര വികാസത്തെ സൂചിപ്പിക്കുന്നു. പുരാതന കാലത്ത് ആലാപി എന്ന സങ്കല്പത്തിലാണ് ഇത് ചെയ്തിരുന്നത്. ആലാപി രണ്ട് തരത്തിലാണുള്ളത്-രാഗാലാപിയും രൂപകാലാപിയും.

സ്വാസ്ഥാന (svasthana) നിയന്ത്രിക്കുന്ന ആലാപിയിലൂടെയാണ് രാഗം പ്രകടമാകുന്നത്. പ്രഥമ, ദ്വിതീയ, ത്ര്യതീയ, ചതുർത്ഥ സ്വാസ്ഥാന എന്നിങ്ങനെ നാല് തരം സ്വാസ്ഥാനങ്ങളുണ്ട്. രൂപകാലാപി രണ്ട് ഘട്ടങ്ങളിലായി പ്രകടമാണ്, അതായത് 'പ്രതിഗ്രഹണിക' യും 'ഭഞ്ജിനി' യും. സ്ഥായ ഭഞ്ജിനി, രൂപക ഭഞ്ജിനി എന്നീ വഴികളിലൂടെ ഭഞ്ജിനിയെ കൂടുതൽ വ്യക്തമാക്കാം.

അനിബദ്ധ എന്നത്:

1. താളബദ്ധമായ സംഗീതം
2. സ്വതന്ത്ര വികാസം
3. തീർത്ഥാകൾ അനുസരിച്ച് ചിട്ടപ്പെടുത്തപ്പെട്ട സംഗീതം
4. താളത്തിൽ തനസ് സജ്ജീകരിച്ച ഒരു രാഗത്തിന്റെ വികാസം

Options :

- 485584134461. 1
- 485584134462. 2
- 485584134463. 3
- 485584134464. 4

Question Number : 252 Question Id : 48558433617 Question Type : MCQ Option Shuffling : No Is Question Mandatory : No Calculator : None Response Time : N.A Think Time : N.A Minimum Instruction Time : 0

Correct Marks : 5 Wrong Marks : 1

Question Key Details :

Key	Value
Comprehension	Comp1

Read the paragraph and answer the following questions:

Raga has been manifested through Anibaddha and Nibaddha. Anibaddha refers to free extempore development of a raga. In ancient period, it was done under the concept of Alapti. Alapti is of two types - Ragalapti and Rupkalapti. alapti is governed by Svasthana. there are four types of Svasthana known as Prathama, Dvitya, Tritiya and Chaturtha Svasthana. Rupkalapti is done in two steps, that is, Pratigrahanika and Bhanjani. Bhanjani can further be done in two ways which are Sthaya Bhanjani and Rupak Bhanjani.

How many varieties of Alapti are there?

1. 2
2. 4
3. 5
4. 7

**Options :**

- 485584134465. 1
- 485584134466. 2
- 485584134467. 3
- 485584134468. 4

**Question Number : 252 Question Id : 48558433617 Question Type : MCQ Option Shuffling : No Is Question Mandatory : No Calculator : None Response Time : N.A Think Time : N.A Minimum Instruction Time : 0**

**Correct Marks : 5 Wrong Marks : 1**

**Question Key Details :**

Key	Value
Comprehension	Comp1

ചുവടെ ചേർത്തിരിക്കുന്ന ഖണ്ഡിക വായിച്ച്, താഴെ പറയുന്ന ചോദ്യങ്ങൾക്ക് ഉത്തരം നൽകുക

അനിബദ്ധത്തിലൂടെയും നിബദ്ധത്തിലൂടെയും ആണ് രാഗവിസ്കാരം നടത്തുന്നത്. അനിബദ്ധ എന്നത് ഒരു രാഗത്തിന്റെ സ്വതന്ത്ര വികാസത്തെ സൂചിപ്പിക്കുന്നു. പുരാതന കാലത്ത് ആലാപി എന്ന സങ്കല്പത്തിലാണ് ഇത് ചെയ്തിരുന്നത്. ആലാപി രണ്ടു തരത്തിലാണുള്ളത്-രാഗാലാപിയും രൂപകാലാപിയും.

സ്വാസ്ഥാന (svasthana) നിയന്ത്രിക്കുന്ന ആലാപിയിലൂടെയാണ് രാഗം പ്രകടമാകുന്നത്. പ്രഥമ, ദ്വിതീയ, ത്ര്യതീയ, ചതുർത്ഥ സ്വാസ്ഥാന എന്നിങ്ങനെ നാല് തരം സ്വാസ്ഥാനങ്ങളുണ്ട്. രൂപകാലാപി രണ്ട് ഘട്ടങ്ങളിലായി പ്രകടമാണ്, അതായത് 'പ്രതിഗ്രഹണിക' യും 'ഭഞ്ജിനി' യും. സ്ഥായ ഭഞ്ജിനി, രൂപക ഭഞ്ജിനി എന്നീ വഴികളിലൂടെ ഭഞ്ജിനിയെ കൂടുതൽ വ്യക്തമാക്കാം.

ആലാപി എത്ര വിധത്തിൽ ഉണ്ട്?

- 1. 2
- 2. 4
- 3. 5
- 4. 7

**Options :**

- 485584134465. 1
- 485584134466. 2
- 485584134467. 3
- 485584134468. 4

**Question Number : 253 Question Id : 48558433618 Question Type : MCQ Option Shuffling : No Is Question Mandatory : No Calculator : None Response Time : N.A Think Time : N.A Minimum Instruction Time : 0**

**Correct Marks : 5 Wrong Marks : 1**

**Question Key Details :**

Key	Value
Comprehension	Comp1

Read the paragraph and answer the following questions:

Raga has been manifested through Anibaddha and Nibaddha. Anibaddha refers to free extempore development of a raga. In ancient period, it was done under the concept of Alapti. Alapti is of two types - Ragalapti and Rupkalapti. alapti is governed by Svasthana. there are four types of Svasthana known as Prathama, Dvitya, Tritiya and Chaturtha Svasthana. Rupkalapti is done in two steps, that is, Pratigrahanika and Bhanjani. Bhanjani can further be done in two ways which are Sthaya Bhanjani and Rupak Bhanjani.

Alapti is governed by :

- 1. Sthaya
- 2. Nature of Tala
- 3. Svasthana
- 4. Nibaddha

**Options :**

- 485584134469. 1
- 485584134470. 2
- 485584134471. 3
- 485584134472. 4

**Question Number : 253 Question Id : 48558433618 Question Type : MCQ Option Shuffling : No Is Question Mandatory : No Calculator : None Response Time : N.A Think Time : N.A Minimum Instruction Time : 0**

**Correct Marks : 5 Wrong Marks : 1**

**Question Key Details :**

Key	Value
Comprehension	Compl

ചുവടെ ചേർത്തിരിക്കുന്ന ഖണ്ഡിക വായിച്ച്, താഴെ പറയുന്ന ചോദ്യങ്ങൾക്ക് ഉത്തരം നൽകുക

അനിബദ്ധത്തിലൂടെയും നിബദ്ധത്തിലൂടെയും ആണ് രാഗവിസ്കാരം നടത്തുന്നത്. അനിബദ്ധ എന്നത് ഒരു രാഗത്തിന്റെ സ്വതന്ത്ര വികാസത്തെ സൂചിപ്പിക്കുന്നു. പുരാതന കാലത്ത് ആലാപി എന്ന സങ്കല്പത്തിലാണ് ഇത് ചെയ്തിരുന്നത്. ആലാപി രണ്ടു തരത്തിലാണുള്ളത്-രാഗാലാപിയും രൂപകാലാപിയും.

സ്വാസ്ഥാന (svasthana) നിയന്ത്രിക്കുന്ന ആലാപിയിലൂടെയാണ് രാഗം പ്രകടമാകുന്നത്. പ്രഥമ, ദ്വിതീയ, ത്ര്യതീയ, ചതുർത്ഥ സ്വാസ്ഥാന എന്നിങ്ങനെ നാല് തരം സ്വാസ്ഥാനങ്ങളുണ്ട്. രൂപകാലാപി രണ്ട് ഘട്ടങ്ങളിലായി പ്രകടമാണ്, അതായത് 'പ്രതിഗ്രഹണിക' യും 'ഭഞ്ജിനി' യും. സ്ഥായ ഭഞ്ജിനി, രൂപക ഭഞ്ജിനി എന്നീ വഴികളിലൂടെ ഭഞ്ജിനിയെ കൂടുതൽ വ്യക്തമാക്കാം.

ആലാപിയെ നിയന്ത്രിക്കുന്നത് :-

- 1. സ്ഥായ
- 2. താളത്തിന്റെ സ്വഭാവം /ശൈലി
- 3. സ്വാസ്ഥാന
- 4. നിബദ്ധ

**Options :**

- 485584134469. 1
- 485584134470. 2
- 485584134471. 3
- 485584134472. 4

**Question Number : 254 Question Id : 48558433619 Question Type : MCQ Option Shuffling : No Is Question Mandatory : No Calculator : None Response Time : N.A Think Time : N.A Minimum Instruction Time : 0**

**Correct Marks : 5 Wrong Marks : 1**

**Question Key Details :**

Key	Value
Comprehension	Comp1

Read the paragraph and answer the following questions:

Raga has been manifested through Anibaddha and Nibaddha. Anibaddha refers to free extempore development of a raga. In ancient period, it was done under the concept of Alapti. Alapti is of two types - Ragalapti and Rupkalapti. alapti is governed by Svasthana. there are four types of Svasthana known as Prathama, Dvitya, Tritiya and Chaturtha Svasthana. Rupkalapti is done in two steps, that is, Pratigrahanika and Bhanjani. Bhanjani can further be done in two ways which are Sthaya Bhanjani and Rupak Bhanjani.

Pratigrahanika and Bhanjani are the varieties of :

1. Dhatu
2. Gram
3. Prathama
4. Rupkalapti

**Options :**

- 485584134473. 1
- 485584134474. 2
- 485584134475. 3
- 485584134476. 4

**Question Number : 254 Question Id : 48558433619 Question Type : MCQ Option Shuffling : No Is Question Mandatory : No Calculator : None Response Time : N.A Think Time : N.A Minimum Instruction Time : 0**

**Correct Marks : 5 Wrong Marks : 1**

**Question Key Details :**

Key	Value
Comprehension	Comp1

ചുവടെ ചേർത്തിരിക്കുന്ന ഖണ്ഡിക വായിച്ച്, താഴെ പറയുന്ന ചോദ്യങ്ങൾക്ക് ഉത്തരം നൽകുക

അനിബദ്ധത്തിലൂടെയും നിബദ്ധത്തിലൂടെയും ആണ് രാഗവിസ്താരം നടത്തുന്നത്. അനിബദ്ധ എന്നത് ഒരു രാഗത്തിന്റെ സ്വതന്ത്ര വികാസത്തെ സൂചിപ്പിക്കുന്നു. പുരാതന കാലത്ത് ആലാപി എന്ന സങ്കല്പത്തിലാണ് ഇത് ചെയ്തിരുന്നത്. ആലാപി രണ്ടു തരത്തിലാണുള്ളത്-രാഗാലാപിയും രൂപകാലാപിയും.

സ്വാസ്ഥാന (svasthana) നിയന്ത്രിക്കുന്ന ആലാപിയിലൂടെയാണ് രാഗം പ്രകടമാകുന്നത്. പ്രഥമ, ദ്വിതീയ, ത്ര്യതീയ, ചതുർത്ഥ സ്വാസ്ഥാന എന്നിങ്ങനെ നാലു തരം സ്വാസ്ഥാനങ്ങളുണ്ട്. രൂപകാലാപി രണ്ട് ഘട്ടങ്ങളിലായി പ്രകടമാണ്, അതായത് 'പ്രതിഗ്രഹണിക' യും 'ഭഞ്ജിനി' യും. സ്ഥായ ഭഞ്ജിനി, രൂപക ഭഞ്ജിനി എന്നീ വഴികളിലൂടെ ഭഞ്ജിനിയെ കൂടുതൽ വ്യക്തമാക്കാം.

പ്രതിഗ്രഹണികയും ഭഞ്ജിനിയും താഴെപ്പറയുന്നവയിൽ ഏതിന്റെ ഇനങ്ങളാണ് :-

1. ധാതു
2. ഗ്രാം
3. പ്രഥമ
4. രൂപകാലാപി

**Options :**

- 485584134473. 1
- 485584134474. 2
- 485584134475. 3
- 485584134476. 4

**Question Number : 255 Question Id : 48558433620 Question Type : MCQ Option Shuffling : No Is Question Mandatory : No Calculator : None Response Time : N.A Think Time : N.A Minimum Instruction Time : 0**

**Correct Marks : 5 Wrong Marks : 1**

**Question Key Details :**

Key	Value
Comprehension	Comp1

Read the paragraph and answer the following questions:

Raga has been manifested through Anibaddha and Nibaddha. Anibaddha refers to free extempore development of a raga. In ancient period, it was done under the concept of Alapti. Alapti is of two types - Ragalapti and Rupkalapti. alapti is governed by Svasthana. there are four types of Svasthana known as Prathama, Dvitya, Tritiya and Chaturtha Svasthana. Rupkalapti is done in two steps, that is, Pratigrahanika and Bhanjani. Bhanjani can further be done in two ways which are Sthaya Bhanjani and Rupak Bhanjani.

The two types of Bhanjani are:

1. Sthaya and Rupak
2. Rupak and Prathama
3. Tritiya and Sthaya
4. Rupak and Chaturtha

**Options :**

- 485584134477. 1
- 485584134478. 2
- 485584134479. 3
- 485584134480. 4

**Question Number : 255 Question Id : 48558433620 Question Type : MCQ Option Shuffling : No Is Question Mandatory : No Calculator : None Response Time : N.A Think Time : N.A Minimum Instruction Time : 0**

**Correct Marks : 5 Wrong Marks : 1**

**Question Key Details :**

Key	Value
Comprehension	Comp1

ചുവടെ ചേർത്തിരിക്കുന്ന ഖണ്ഡിക വായിച്ച്, താഴെ പറയുന്ന ചോദ്യങ്ങൾക്ക് ഉത്തരം നൽകുക

അനിബദ്ധത്തിലൂടെയും നിബദ്ധത്തിലൂടെയും ആണ് രാഗവിസ്കാരം നടത്തുന്നത്. അനിബദ്ധ എന്നത് ഒരു രാഗത്തിന്റെ സ്വതന്ത്ര വികാസത്തെ സൂചിപ്പിക്കുന്നു. പുരാതന കാലത്ത് ആലാപി എന്ന സങ്കല്പത്തിലാണ് ഇത് ചെയ്തിരുന്നത്. ആലാപി രണ്ടു തരത്തിലാണുള്ളത്-രാഗാലാപിയും രൂപകാലാപിയും.

സ്വാസ്ഥാന (svasthana) നിയന്ത്രിക്കുന്ന ആലാപിയിലൂടെയാണ് രാഗം പ്രകടമാകുന്നത്. പ്രഥമ, ദ്വിതീയ, തൃതീയ, ചതുർത്ഥ സ്വാസ്ഥാന എന്നിങ്ങനെ നാല് തരം സ്വാസ്ഥാനങ്ങളുണ്ട്. രൂപകാലാപി രണ്ട് ഘട്ടങ്ങളിലായി പ്രകടമാണ്, അതായത് 'പ്രതിഗ്രഹണിക' യും 'ഭഞ്ജിനി' യും. സ്ഥായ ഭഞ്ജിനി, രൂപക ഭഞ്ജിനി എന്നീ വഴികളിലൂടെ ഭഞ്ജിനിയെ കൂടുതൽ വ്യക്തമാക്കാം.

ഭഞ്ജിനിയുടെ രണ്ട് വിധമെന്നത് :-

1. സ്ഥായയും രൂപകവും
2. രൂപകവും പ്രഥമവും
3. തൃതീയയും സ്ഥായയും
4. രൂപകവും ചതുർത്ഥവും

**Options :**

- 485584134477. 1
- 485584134478. 2
- 485584134479. 3
- 485584134480. 4

**Sub-Section Number :** 2  
**Sub-Section Id :** 4855842435  
**Question Shuffling Allowed :** No  
**Is Section Default? :** null

**Question Number : 256 Question Id : 48558433621 Question Type : MCQ Option Shuffling : No Is Question Mandatory : No Calculator : None Response Time : N.A Think Time : N.A Minimum Instruction Time : 0**

**Correct Marks : 5 Wrong Marks : 1**

**Question Key Details :**

Key	Value
Comprehension	Comp2



Read the paragraph and answer the following questions:

The Nobel recipient Rabindranath Tagore had a great place for Manipuri dance in his heart. He was attracted to the Manipuri dance form for its many features. In his poem "Chitrangada", which was later transformed into a dance drama, he takes the story to the land of Manipur. We have seen that Tagore was absorbed in padavali lyrics at a very tender age for the beautiful compositional and the descriptive aspect of the padavali poems. He wrote quite a few poems in Brajbuli like vaishnava lyrics in the pen name Bhanusingha which are a collection under the name of "Bhanusingher Padavali". These lyrics serve as a perfect accompaniment to Manipuri dances and often Bhanusingher Padavalis are performed as a dance drama in Manipuri dance style today.

What was the pen name of the author of 'Bhanusingher Padavali'?

- 1. Rabindranath Tagore
- 2. Bhanusingha
- 3. Chitrangada
- 4. Vaishnava

**Options :**

- 485584134481. 1
- 485584134482. 2
- 485584134483. 3
- 485584134484. 4

**Question Number : 256 Question Id : 48558433621 Question Type : MCQ Option Shuffling : No Is Question Mandatory : No Calculator : None Response Time : N.A Think Time : N.A Minimum Instruction Time : 0**

**Correct Marks : 5 Wrong Marks : 1**

**Question Key Details :**

Key	Value
Comprehension	Comp2

നോബൽ സമ്മാനജേതാവായ, രവീന്ദ്ര നാഥ ടാഗോറിന്റെ ഹൃദയത്തിൽ മണിപ്പൂരി നൃത്തത്തിന് വലിയ സ്ഥാനമുണ്ടായിരുന്നു. മണിപ്പൂരി നൃത്തത്തിന്റെ പല സവിഷേതകളും അദ്ദേഹത്തെ ആകർഷിച്ചു. തന്റെ "ചിത്രാംഗദ" എന്ന കവിതയിൽ, അത് പിന്നീട് ഒരു നൃത്ത നാടകമായി രൂപാന്തരപ്പെട്ടു. അദ്ദേഹം കഥയെ മണിപ്പൂരിന്റെ നാട്ടിലേക്ക് കൊണ്ടുപോകുന്നു. പദാവലി കവിതകളുടെ മനോഹരമായ രചനയും വിവരണാത്മക വശത്തിനും വളരെ ചെറുപ്പത്തിൽ തന്നെ ടാഗോർ പദാവലി വരികളിൽ ലയിച്ചതായി നാം കണ്ടു. അദ്ദേഹം ബ്രജബുലിയിൽ കുറച്ച കവിതകൾ എഴുതിയിട്ടുണ്ട്. 'ഭാനുസിംഗ' എന്ന പൊതുവായ സംജ്ഞയിലുള്ള വൈഷ്ണവ വരികൾ, "ഭാനുസിംഗർ പദാവലി" എന്ന പേരിൽ ഒരു ശേഖരമാണ്. ഈ വരികൾ മണിപ്പൂരി നൃത്തത്തിന് ഒരു തികഞ്ഞ അകമ്പടിയായി വർത്തിക്കുന്നു. ഇന്ന് പലപ്പോഴും ഭാനുസിംഗർ പദാവലികൾ മണിപ്പൂരി നൃത്ത ശൈലിയിൽ ഒരു നൃത്ത നാടകമായി അവതരിപ്പിക്കപ്പെടുന്നു.

'ഭാനുസിംഗർ' പദാവലിയുടെ രചയിതാവിന്റെ തൂലികാനാമം?

1. രവീന്ദ്ര നാഥ ടാഗോർ
2. ഭാനുസിൻഹ
3. ചിത്രാംഗഥ
4. വൈഷ്ണവ

**Options :**

485584134481. 1  
485584134482. 2  
485584134483. 3  
485584134484. 4

**Question Number : 257 Question Id : 48558433622 Question Type : MCQ Option Shuffling : No Is Question Mandatory : No Calculator : None Response Time : N.A Think Time : N.A Minimum Instruction Time : 0**

**Correct Marks : 5 Wrong Marks : 1**

**Question Key Details :**

Key	Value
Comprehension	Comp2

Read the paragraph and answer the following questions:

The Nobel recipient Rabindranath Tagore had a great place for Manipuri dance in his heart. He was attracted to the Manipuri dance form for its many features. In his poem "Chitrangada", which was later transformed into a dance drama, he takes the story to the land of Manipur. We have seen that Tagore was absorbed in padavali lyrics at a very tender age for the beautiful compositional and the descriptive aspect of the padavali poems. He wrote quite a few poems in Brajbuli like vaishnava lyrics in the pen name Bhanusingha which are a collection under the name of "Bhanusingher Padavali". These lyrics serve as a perfect accompaniment to Manipuri dances and often Bhanusingher Padavalis are performed as a dance drama in Manipuri dance style today.

Who got the "Nobel Prize" for his book of poems "Geetanjali"?

1. Rabindranath Tagore
2. Abnindranath Tagore
3. Sachindranath Tagore
4. Brijendranath Tagore

**Options :**

485584134485. 1  
485584134486. 2  
485584134487. 3  
485584134488. 4

**Question Number : 257 Question Id : 48558433622 Question Type : MCQ Option Shuffling : No Is Question Mandatory : No Calculator : None Response Time : N.A Think Time : N.A Minimum Instruction Time : 0**

**Correct Marks : 5 Wrong Marks : 1**

**Question Key Details :**

Key	Value
Comprehension	Comp2

നോബൽ സമ്മാനജേതാവായ, രവീന്ദ്ര നാഥ ടാഗോറിന്റെ ഹൃദയത്തിൽ മണിപ്പൂരി നൃത്തത്തിന് വലിയ സ്ഥാനമുണ്ടായിരുന്നു. മണിപ്പൂരി നൃത്തത്തിന്റെ പല സവിഷേതകളും അദ്ദേഹത്തെ ആകർഷിച്ചു. തന്റെ "ചിത്രാംഗദ" എന്ന കവിതയിൽ, അത് പിന്നീട് ഒരു നൃത്ത നാടകമായി രൂപാന്തരപ്പെട്ടു. അദ്ദേഹം കഥയെ മണിപ്പൂരിന്റെ നാട്ടിലേക്ക് കൊണ്ടുപോകുന്നു. പദാവലി കവിതകളുടെ മനോഹരമായ രചനയും വിവർണാർത്ഥക വശത്തിനും വളരെ ചെറുപ്പത്തിൽ തന്നെ ടാഗോർ പദാവലി വരികളിൽ ലയിച്ചതായി നാം കണ്ടു. അദ്ദേഹം ബ്രജബുലിയിൽ കുറച്ച കവിതകൾ എഴുതിയിട്ടുണ്ട്. 'ഭാനുസിംഗ' എന്ന പൊതുവായ സംജ്ഞയിലുള്ള വൈഷ്ണവ വരികൾ, "ഭാനുസിംഗർ പദാവലി" എന്ന പേരിൽ ഒരു ശേഖരമാണ്. ഈ വരികൾ മണിപ്പൂരി നൃത്തത്തിന് ഒരു തികഞ്ഞ അകമ്പടിയായി വർത്തിക്കുന്നു. ഇന്ന് പലപ്പോഴും ഭാനുസിംഗർ പദാവലികൾ മണിപ്പൂരി നൃത്ത ശൈലിയിൽ ഒരു നൃത്ത നാടകമായി അവതരിപ്പിക്കപ്പെടുന്നു.

"ഗീതാഞ്ജലി" എന്ന കവിതാ പുസ്തകത്തിന് "നോബേൽ സമ്മാനം" ലഭിച്ചത് ആർക്കാണ്?

- 1. രവീന്ദ്ര നാഥ ടാഗോർ
- 2. ആഭിനിന്ദ്ര നാഥ ടാഗോർ
- 3. സച്ചിന്ദ്ര നാഥ ടാഗോർ
- 4. ബ്രിജേന്ദ്ര നാഥ ടാഗോർ

**Options :**

- 485584134485. 1
- 485584134486. 2
- 485584134487. 3
- 485584134488. 4

**Question Number : 258 Question Id : 48558433623 Question Type : MCQ Option Shuffling : No Is Question Mandatory : No Calculator : None Response Time : N.A Think Time : N.A Minimum Instruction Time : 0**

**Correct Marks : 5 Wrong Marks : 1**

**Question Key Details :**

Key	Value
Comprehension	Comp2

Read the paragraph and answer the following questions:

The Nobel recipient Rabindranath Tagore had a great place for Manipuri dance in his heart. He was attracted to the Manipuri dance form for its many features. In his poem "Chitrangada", which was later transformed into a dance drama, he takes the story to the land of Manipur. We have seen that Tagore was absorbed in padavali lyrics at a very tender age for the beautiful compositional and the descriptive aspect of the padavali poems. He wrote quite a few poems in Brajbuli like vaishnava lyrics in the pen name Bhanusingha which are a collection under the name of "Bhanusingher Padavali". These lyrics serve as a perfect accompaniment to Manipuri dances and often Bhanusingher Padavalis are performed as a dance drama in Manipuri dance style today.

Which poem written by Tagore was later turned into a dance-drama in Manipuri dance?

1. Chandalika
2. Geetanjali
3. Sujata
4. Chitrangada

**Options :**

- 485584134489. 1
- 485584134490. 2
- 485584134491. 3
- 485584134492. 4

**Question Number : 258 Question Id : 48558433623 Question Type : MCQ Option Shuffling : No Is Question Mandatory : No Calculator : None Response Time : N.A Think Time : N.A Minimum Instruction Time : 0**

**Correct Marks : 5 Wrong Marks : 1**

**Question Key Details :**

Key	Value
Comprehension	Comp2

നോബൽ സമ്മാനജേതാവായ, രവീന്ദ്ര നാഥ ടാഗോറിന്റെ ഹൃദയത്തിൽ മണിപ്പൂരി നൃത്തത്തിന് വലിയ സ്ഥാനമുണ്ടായിരുന്നു. മണിപ്പൂരി നൃത്തത്തിന്റെ പല സവിഷേതകളും അദ്ദേഹത്തെ ആകർഷിച്ചു. തന്റെ “ചിത്രാംഗദ” എന്ന കവിതയിൽ, അത് പിന്നീട് ഒരു നൃത്ത നാടകമായി രൂപാന്തരപ്പെട്ടു. അദ്ദേഹം കഥയെ മണിപ്പൂരിന്റെ നാട്ടിലേക്ക് കൊണ്ടുപോകുന്നു. പദാവലി കവിതകളുടെ മനോഹരമായ രചനയും വിവർണാത്മക വശത്തിനും വളരെ ചെറുപ്പത്തിൽ തന്നെ ടാഗോർ പദാവലി വരികളിൽ ലയിച്ചതായി നാം കണ്ടു. അദ്ദേഹം ബ്രജബുലിയിൽ കുറച്ച കവിതകൾ എഴുതിയിട്ടുണ്ട്. ‘ഭാനുസിംഗ’ എന്ന പൊതുവായ സംജ്ഞയിലുള്ള വൈഷ്ണവ വരികൾ, “ഭാനുസിംഗർ പദാവലി” എന്ന പേരിൽ ഒരു ശേഖരമാണ്. ഈ വരികൾ മണിപ്പൂരി നൃത്തത്തിന് ഒരു തികഞ്ഞ അകമ്പടിയായി വർത്തിക്കുന്നു. ഇന്ന് പലപ്പോഴും ഭാനുസിംഗർ പദാവലികൾ മണിപ്പൂരി നൃത്ത ശൈലിയിൽ ഒരു നൃത്ത നാടകമായി അവതരിപ്പിക്കപ്പെടുന്നു.

ടാഗോർ എഴുതിയ ഏത് കവിതയാണ് പിന്നീട് മണിപ്പൂരി നൃത്തത്തിൽ നൃത്ത നാടകമായി മാറിയത്?

1. ചാന്ദലിക
2. ഗീതാഞ്ജലി
3. സുജാത
4. ചിത്രാംഗഥ

**Options :**

- 485584134489. 1
- 485584134490. 2
- 485584134491. 3
- 485584134492. 4

**Question Number : 259 Question Id : 48558433624 Question Type : MCQ Option Shuffling : No Is Question Mandatory : No Calculator : None Response Time : N.A Think Time : N.A Minimum Instruction Time : 0**

**Correct Marks : 5 Wrong Marks : 1**

**Question Key Details :**

Key	Value
Comprehension	Comp2

Read the paragraph and answer the following questions:

The Nobel recipient Rabindranath Tagore had a great place for Manipuri dance in his heart. He was attracted to the Manipuri dance form for its many features. In his poem "Chitrangada", which was later transformed into a dance drama, he takes the story to the land of Manipur. We have seen that Tagore was absorbed in padavali lyrics at a very tender age for the beautiful compositional and the descriptive aspect of the padavali poems. He wrote quite a few poems in Brajbuli like vaishnava lyrics in the pen name Bhanusingha which are a collection under the name of "Bhanusingher Padavali". These lyrics serve as a perfect accompaniment to Manipuri dances and often Bhanusingher Padavali are performed as a dance drama in Manipuri dance style today.

Which classical dance form had a great place in the heart of Rabindranath Tagore?

- 1. Mohiniattam
- 2. Odissi
- 3. Manipuri
- 4. Sattriya

**Options :**

- 485584134493. 1
- 485584134494. 2
- 485584134495. 3
- 485584134496. 4

**Question Number : 259 Question Id : 48558433624 Question Type : MCQ Option Shuffling : No Is Question Mandatory : No Calculator : None Response Time : N.A Think Time : N.A Minimum Instruction Time : 0 Correct Marks : 5 Wrong Marks : 1**

**Question Key Details :**

Key	Value
Comprehension	Comp2

നോബൽ സമ്മാനജേതാവായ, രവീന്ദ്ര നാഥ ടാഗോറിന്റെ ഹൃദയത്തിൽ മണിപ്പൂരി നൃത്തത്തിന് വലിയ സ്ഥാനമുണ്ടായിരുന്നു. മണിപ്പൂരി നൃത്തത്തിന്റെ പല സവിഷേതകളും അദ്ദേഹത്തെ ആകർഷിച്ചു. തന്റെ "ചിത്രാംഗദ" എന്ന കവിതയിൽ, അത് പിന്നീട് ഒരു നൃത്ത നാടകമായി രൂപാന്തരപ്പെട്ടു. അദ്ദേഹം കഥയെ മണിപ്പൂരിന്റെ നാട്ടിലേക്ക് കൊണ്ടുപോകുന്നു. പദാവലി കവിതകളുടെ മനോഹരമായ രചനയും വിവർണാത്മക വശത്തിനും വളരെ ചെറുപ്പത്തിൽ തന്നെ ടാഗോർ പദാവലി വരികളിൽ ലയിച്ചതായി നാം കണ്ടു. അദ്ദേഹം ബ്രജബുലിയിൽ കുറച്ച കവിതകൾ എഴുതിയിട്ടുണ്ട്. 'ഭാനുസിംഗ' എന്ന പൊതുവായ സംജ്ഞയിലുള്ള വൈഷ്ണവ വരികൾ, "ഭാനുസിംഗർ പദാവലി" എന്ന പേരിൽ ഒരു ശേഖരമാണ്. ഈ വരികൾ മണിപ്പൂരി നൃത്തത്തിന് ഒരു തികഞ്ഞ അകമ്പടിയായി വർത്തിക്കുന്നു. ഇന്ന് പലപ്പോഴും ഭാനുസിംഗർ പദാവലികൾ മണിപ്പൂരി നൃത്ത ശൈലിയിൽ ഒരു നൃത്ത നാടകമായി അവതരിപ്പിക്കപ്പെടുന്നു.

രവീന്ദ്ര നാഥ ടാഗോറിന്റെ ഹൃദയത്തിൽ മഹത്തായ സ്ഥാനം നേടിയ ശാസ്ത്രീയ നൃത്ത രൂപം ഏതാണ്?

1. മോഹിനിയാട്ടം
2. ഒഡീസി
3. മണിപ്പൂരി
4. സാത്രിയ

**Options :**

- 485584134493. 1
- 485584134494. 2
- 485584134495. 3
- 485584134496. 4

**Question Number : 260 Question Id : 48558433625 Question Type : MCQ Option Shuffling : No Is Question Mandatory : No Calculator : None Response Time : N.A Think Time : N.A Minimum Instruction Time : 0**

**Correct Marks : 5 Wrong Marks : 1**

**Question Key Details :**

Key	Value
Comprehension	Comp2

Read the paragraph and answer the following questions:

The Nobel recipient Rabindranath Tagore had a great place for Manipuri dance in his heart. He was attracted to the Manipuri dance form for its many features. In his poem "Chitrangada", which was later transformed into a dance drama, he takes the story to the land of Manipur. We have seen that Tagore was absorbed in padavali lyrics at a very tender age for the beautiful compositional and the descriptive aspect of the padavali poems. He wrote quite a few poems in Brajbuli like vaishnava lyrics in the pen name Bhanusingha which are a collection under the name of "Bhanusingher Padavali". These lyrics serve as a perfect accompaniment to Manipuri dances and often Bhanusingher Padavalis are performed as a dance drama in Manipuri dance style today.

"Bhanusingher Padavali" was written in which language?

1. Brajvalli
2. Bengali
3. Brajbuli
4. Pali

**Options :**

- 485584134497. 1
- 485584134498. 2
- 485584134499. 3
- 485584134500. 4

**Question Number : 260 Question Id : 48558433625 Question Type : MCQ Option Shuffling : No Is Question Mandatory : No Calculator : None Response Time : N.A Think Time : N.A Minimum Instruction Time : 0**

Correct Marks : 5 Wrong Marks : 1

Question Key Details :

Key	Value
Comprehension	Comp2

നോബൽ സമ്മാനജേതാവായ, രവീന്ദ്ര നാഥ ടാഗോറിന്റെ ഹൃദയത്തിൽ മണിപ്പൂരി നൃത്തത്തിന് വലിയ സ്ഥാനമുണ്ടായിരുന്നു. മണിപ്പൂരി നൃത്തത്തിന്റെ പല സവിഷേതകളും അദ്ദേഹത്തെ ആകർഷിച്ചു. തന്റെ "ചിത്രാംഗദ" എന്ന കവിതയിൽ, അത് പിന്നീട് ഒരു നൃത്ത നാടകമായി രൂപാന്തരപ്പെട്ടു. അദ്ദേഹം കഥയെ മണിപ്പൂരിന്റെ നാട്ടിലേക്ക് കൊണ്ടുപോകുന്നു. പദാവലി കവിതകളുടെ മനോഹരമായ രചനയും വിവരണാർത്ഥക വശത്തിനും വളരെ ചെറുപ്പത്തിൽ തന്നെ ടാഗോർ പദാവലി വരികളിൽ ലയിച്ചതായി നാം കണ്ടു. അദ്ദേഹം ബ്രജബുലിയിൽ കുറച്ചു കവിതകൾ എഴുതിയിട്ടുണ്ട്. 'ഭാനുസിംഗ' എന്ന പൊതുവായ സംജ്ഞയിലുള്ള വൈഷ്ണവ വരികൾ, "ഭാനുസിംഗർ പദാവലി" എന്ന പേരിൽ ഒരു ശേഖരമാണ്. ഈ വരികൾ മണിപ്പൂരി നൃത്തത്തിന് ഒരു തികഞ്ഞ അകമ്പടിയായി വർത്തിക്കുന്നു. ഇന്ന് പലപ്പോഴും ഭാനുസിംഗർ പദാവലികൾ മണിപ്പൂരി നൃത്ത ശൈലിയിൽ ഒരു നൃത്ത നാടകമായി അവതരിപ്പിക്കപ്പെടുന്നു.

"ഭാനുസിംഗർ പദാവലി" എഴുതിയത് ഏത് ഭാഷയിലാണ്?

- 1. ബ്രജല്ലി
- 2. ബംഗാളി
- 3. ബ്രജബുലി
- 4. പാലി

Options :

- 485584134497. 1
- 485584134498. 2
- 485584134499. 3
- 485584134500. 4

Sub-Section Number : 3  
 Sub-Section Id : 4855842436  
 Question Shuffling Allowed : No  
 Is Section Default? : null

Question Number : 261 Question Id : 48558433626 Question Type : MCQ Option Shuffling : No Is Question Mandatory : No Calculator : None Response Time : N.A Think Time : N.A Minimum Instruction Time : 0

Correct Marks : 5 Wrong Marks : 1

Question Key Details :

Key	Value
Comprehension	Comp3

There is a great importance of laya in Indian Talas. Laya has been categorised basically into three types - Vilambit, Madhya and Druta. The rule of application in various forms of laya is called 'Yati'. Yati denotes application of 'gati'. Yati has been classified into five types, Sama, Strotogata, Gopuchha, Mridanga and Pipilika. In sama yati, the same laya is used throughout, that is beginning to end. In strotogata, initially we use slow (vilambit) laya whereas Madhya occurs in the middle and Drut laya comes at the end. When it comes to Gopuchha, exactly inverse order of layas is put to application vis a vis strotogata meaning thereby in the later Druta, Madhya laya and Vilambit laya occurs in the first, middle and last order. In Mridanga, drut laya is used at the outset as well as at the end and Madhya laya is used amidst thereof. In Pipilika, vilambit laya occurs in the beginning, at the end while madhya laya is used in middle order, hence 'Yati' is an important aspect of tala's Das Pranas.

Read the above passage and answer the following questions:

Which is the part of Ten pranas of Talas?

1. Chakradar
2. Uthan
3. Yati
4. Peshkar

**Options :**

- 485584134501. 1
- 485584134502. 2
- 485584134503. 3
- 485584134504. 4

**Question Number : 261 Question Id : 48558433626 Question Type : MCQ Option Shuffling : No Is Question Mandatory : No Calculator : None Response Time : N.A Think Time : N.A Minimum Instruction Time : 0**

**Correct Marks : 5 Wrong Marks : 1**

**Question Key Details :**

Key	Value
Comprehension	Comp3

ഇന്ത്യൻ താളത്തിൽ ലയത്തിന് വലിയ പ്രാധാന്യമുണ്ട്. ലയയെ അതിസ്ഥാനപരമായി 'വിളമ്പിക്, മധ്യ, ദ്രുത' എന്നിങ്ങനെ മൂന്നായി തരം തിരിച്ചിരിക്കുന്നു. ലയത്തിന്റെ വിവിധ രൂപങ്ങളിലുള്ള പ്രയോഗത്തിന്റെ നിയമത്തെ "യതി" എന്ന് വിളിക്കുന്നു. യതി - "ഗതി" യുടെ പ്രയോഗത്തെ സൂചിപ്പിക്കുന്നു. യതിയെ 'സാമ, സ്ട്രോട്ടോഗാദ, ഗോപുച്ഛ, മൃദംഗ, പിപിലിക' എന്നിങ്ങനെ അഞ്ചായി വിഭജിച്ചിരിക്കുന്നു. 'സമയതി' യിൽ ആദ്യാവസാനം ഒരേ ലയമാണ് ഉപയോഗിക്കുന്നത്. സ്ട്രോട്ടോഗാദയിൽ, തുടർത്തിൽ നമ്മൾ സ്നോ [വിളമ്പിദ്] ലയ ഉപയോഗിക്കുന്നു. മധ്യത്തിൽ മധ്യവും ദ്രുത ലയ അവസാനവും വരുന്നു.

ഗോപുച്ഛയുടെ കാര്യം വരുമ്പോൾ, ലയങ്ങളുടെ കൃത്യമായ വിപരീത ക്രമം വരുമ്പോൾ സ്ട്രോട്ടോഗാദയിൽ പ്രയോഗിക്കുന്നു. അതുവഴി പിന്നീടുള്ള ദ്രുത, മധ്യ, ലയ, വിളമ്പിദ് ലയ എന്നിവ ആദ്യ, മധ്യ, അവസാന ക്രമത്തിൽ സംഭവിക്കുന്നു. മൃദംഗത്തിൽ, തുടർക്കത്തിലും അവസാന ഭാഗത്തും ദ്രുത ലയയും, അതിനിടയിൽ മധ്യ ലയയും ഉപയോഗിക്കുന്നു.

പിപിലികയിൽ, ആരംഭത്തിലും അവസാന ഭാഗത്തും വിളമ്പിദ് ലയ വരുന്നു. മധ്യലയയാണ് മധ്യ നിരയിൽ ഉപയോഗിക്കുന്നത്. അതിനാൽ "യതി" താളത്തിന്റെ പത്തു പ്രണയുടെ ഒരു ഘടകമാണ്.



താളത്തിലെ പത്ത് പ്രാണയുടെ പ്രധാന ഘടകം ഏത്?

1. ചക്രദാർ
2. ഉമാൻ
3. യതി
4. പേപ്പിക്കാർ

**Options :**

485584134501. 1  
485584134502. 2  
485584134503. 3  
485584134504. 4

**Question Number : 262 Question Id : 48558433627 Question Type : MCQ Option Shuffling : No Is Question Mandatory : No Calculator : None Response Time : N.A Think Time : N.A Minimum Instruction Time : 0**

**Correct Marks : 5 Wrong Marks : 1**

**Question Key Details :**

Key	Value
Comprehension	Comp3

There is a great importance of laya in Indian Talas. Laya has been categorised basically into three types - Vilambit, Madhya and Druta. The rule of application in various forms of laya is called 'Yati'. Yati denotes application of 'gati'. Yati has been classified into five types, Sama, Strotogata, Gopuchha, Mridanga and Pipilika. In sama yati, the same laya is used throughout, that is beginning to end. In strotogata, initially we use slow (vilambit) laya whereas Madhya occurs in the middle and Drut laya comes at the end. When it comes to Gopuchha, exactly inverse order of layas is put to application vis a vis strotogata meaning thereby in the later Druta, Madhya laya and Vilambit laya occurs in the first, middle and last order. In Mridanga, drut laya is used at the outset as well as at the end and Madhya laya is used amidst thereof. In Pipilika, vilambit laya occurs in the beginning, at the end while madhya laya is used in middle order, hence 'Yati' is an important aspect of tala's Das Pranas.

Read the above passage and answer the following questions:

How many types of Yati are there?

1. 3
2. 5
3. 6
4. 8

**Options :**

485584134505. 1  
485584134506. 2  
485584134507. 3  
485584134508. 4

**Question Number : 262 Question Id : 48558433627 Question Type : MCQ Option Shuffling : No Is Question Mandatory : No Calculator : None Response Time : N.A Think Time : N.A Minimum Instruction Time : 0**

**Correct Marks : 5 Wrong Marks : 1**

**Question Key Details :**

Key	Value
Comprehension	Comp3

ഇന്ത്യൻ താളത്തിൽ ലയത്തിന് വലിയ പ്രാധാന്യമുണ്ട്. ലയയെ അതിസ്ഥാനപരമായി 'വിളമ്പിക്, മധ്യ, ഭ്രൂത' എന്നിങ്ങനെ മൂന്നായി തരം തിരിച്ചിരിക്കുന്നു. ലയത്തിന്റെ വിവിധ രൂപങ്ങളിലുള്ള പ്രയോഗത്തിന്റെ നിയമത്തെ "യതി" എന്ന് വിളിക്കുന്നു. യതി - "ഗതി" യുടെ പ്രയോഗത്തെ സൂചിപ്പിക്കുന്നു. യതിയെ 'സാമ, സ്ട്രാട്ടോഗാദ, ഗോപുച്ഛ, മൂദംഗ,പിപിലിക്' എന്നിങ്ങനെ അഞ്ചായി വിഭജിച്ചിരിക്കുന്നു. 'സമയതി' യിൽ ആദ്യാവസാനം ഒരേ ലയമാണ് ഉപയോഗിക്കുന്നത്. സ്ട്രാട്ടോഗാദയിൽ, തുടർത്തിൽ നമ്മൾ സ്ലോ വിളമ്പിദ് ലയ ഉപയോഗിക്കുന്നു. മധ്യത്തിൽ മധ്യവും ഭ്രൂത ലയ അവസാനവും വരുന്നു.

ഗോപുച്ഛയുടെ കാര്യം വരുമ്പോൾ, ലയങ്ങളുടെ കൃത്യമായ വിപരീത ക്രമം വരുമ്പോൾ സ്ട്രാട്ടോഗാദയിൽ പ്രയോഗിക്കുന്നു. അതുവഴി പിന്നീടുള്ള ഭ്രൂത, മധ്യ, ലയ, വിളമ്പിദ് ലയ എന്നിവ ആദ്യ, മധ്യ, അവസാന ക്രമത്തിൽ സംഭവിക്കുന്നു. മൂദംഗത്തിൽ, തുടർക്കത്തിലും അവസാന ഭാഗത്തും ഭ്രൂത ലയയും, അതിനിടയിൽ മധ്യ ലയയും ഉപയോഗിക്കുന്നു.

പിപിലികയിൽ, ആരംഭത്തിലും അവസാന ഭാഗത്തും വിളമ്പിദ് ലയ വരുന്നു. മധ്യലയയാണ് മധ്യ നിരയിൽ ഉപയോഗിക്കുന്നത്. അതിനാൽ "യതി" താളത്തിന്റെ പത്തു പ്രണയുടെ ഒരു ഘടകമാണ്.

എത്ര തരം യതികളുണ്ട്?

- 1. 3
- 2. 5
- 3. 6
- 4. 8

**Options :**

- 485584134505. 1
- 485584134506. 2
- 485584134507. 3
- 485584134508. 4

**Question Number : 263 Question Id : 48558433628 Question Type : MCQ Option Shuffling : No Is Question Mandatory : No Calculator : None Response Time : N.A Think Time : N.A Minimum Instruction Time : 0**

**Correct Marks : 5 Wrong Marks : 1**

**Question Key Details :**

Key	Value
Comprehension	Comp3

There is a great importance of laya in Indian Talas. Laya has been categorised basically into three types - Vilambit, Madhya and Druta. The rule of application in various forms of laya is called 'Yati'. Yati denotes application of 'gati'. Yati has been classified into five types, Sama, Strotogata, Gopuchha, Mridanga and Pipilika. In sama yati, the same laya is used throughout, that is beginning to end. In strotogata, initially we use slow (vilambit) laya whereas Madhya occurs in the middle and Drut laya comes at the end. When it comes to Gopuchha, exactly inverse order of layas is put to application vis a vis strotogata meaning thereby in the later Druta, Madhya laya and Vilambit laya occurs in the first, middle and last order. In Mridanga, drut laya is used at the outset as well as at the end and Madhya laya is used amidst thereof. In Pipilika, vilambit laya occurs in the beginning, at the end while madhya laya is used in middle order, hence 'Yati' is an important aspect of tala's Das Pranas.

Read the above passage and answer the following questions:

Application of laya in Sama yati is:

1. Drut, Madhya, Drut
2. Madhya, Drut, Madhya
3. Same laya from beginning to end
4. Drut laya at the beginning and end, and vilambit laya in the middle

Options :

- 485584134509. 1
- 485584134510. 2
- 485584134511. 3
- 485584134512. 4

Question Number : 263 Question Id : 48558433628 Question Type : MCQ Option Shuffling : No Is Question Mandatory : No Calculator : None Response Time : N.A Think Time : N.A Minimum Instruction Time : 0

Correct Marks : 5 Wrong Marks : 1

Question Key Details :

Key	Value
Comprehension	Comp3

ഇന്ത്യൻ താളത്തിൽ ലയത്തിന് വലിയ പ്രാധാന്യമുണ്ട്. ലയയെ അതിസ്ഥാനപരമായി 'വിളമ്പിക്, മധ്യ, ദ്രുത' എന്നിങ്ങനെ മൂന്നായി തരം തിരിച്ചിരിക്കുന്നു. ലയത്തിന്റെ വിവിധ രൂപങ്ങളിലുള്ള പ്രയോഗത്തിന്റെ നിയമത്തെ "യതി" എന്ന് വിളിക്കുന്നു. യതി - "ഗതി" യുടെ പ്രയോഗത്തെ സൂചിപ്പിക്കുന്നു. യതിയെ 'സാമ, സ്ത്രോഗാദ, ഗോപുച്ഛ, മൃദംഗ, പിപിലിക്' എന്നിങ്ങനെ അഞ്ചായി വിഭജിച്ചിരിക്കുന്നു. 'സമയതി' യിൽ ആദ്യാവസാനം ഒരേ ലയമാണ് ഉപയോഗിക്കുന്നത്. സ്ത്രോഗാദയിൽ, തുടർത്തിൽ നമ്മൾ സ്ലോ [വിളമ്പിദ്] ലയ ഉപയോഗിക്കുന്നു. മധ്യത്തിൽ മധ്യവും ദ്രുത ലയ അവസാനവും വരുന്നു.

ഗോപുച്ഛയുടെ കാര്യം വരുമ്പോൾ, ലയങ്ങളുടെ കൃത്യമായ വിപരീത ക്രമം വരുമ്പോൾ സ്ത്രോഗാദയിൽ പ്രയോഗിക്കുന്നു. അതുവഴി പിന്നീടുള്ള ദ്രുത, മധ്യ, ലയ, വിളമ്പിദ് ലയ എന്നിവ ആദ്യ, മധ്യ, അവസാന ക്രമത്തിൽ സംഭവിക്കുന്നു. മൃദംഗത്തിൽ, തുടർത്തിലും അവസാന ഭാഗത്തും ദ്രുത ലയയും, അതിനിടയിൽ മധ്യ ലയയും ഉപയോഗിക്കുന്നു.

പിപിലികയിൽ, ആരംഭത്തിലും അവസാന ഭാഗത്തും വിളമ്പിദ് ലയ വരുന്നു. മധ്യലയയാണ് മധ്യ നിരയിൽ ഉപയോഗിക്കുന്നത്. അതിനാൽ "യതി" താളത്തിന്റെ പത്ത് പ്രണയുടെ ഒരു ഘടകമാണ്.

സമ യതിയിൽ ലയയുടെ പ്രയോഗം :-

1. ദ്രുത് - മധ്യ - ദ്രുത്
2. മധ്യ - ദ്രുത് - മധ്യ
3. ആരംഭം മുതൽ അവസാനം വരെ ഒരേ ലയ
4. തുടക്കത്തിലും അവസാനത്തിലും ദ്രുത് ലയ, മധ്യത്തിൽ വിളമ്പിട് ലയ

**Options :**

485584134509. 1
485584134510. 2
485584134511. 3
485584134512. 4

**Question Number : 264 Question Id : 48558433629 Question Type : MCQ Option Shuffling : No Is Question Mandatory : No Calculator : None Response Time : N.A Think Time : N.A Minimum Instruction Time : 0**

**Correct Marks : 5 Wrong Marks : 1**

**Question Key Details :**

Key	Value
Comprehension	Comp3

There is a great importance of laya in Indian Talas. Laya has been categorised basically into three types - Vilambit, Madhya and Druta. The rule of application in various forms of laya is called 'Yati'. Yati denotes application of 'gati'. Yati has been classified into five types, Sama, Strotogata, Gopuchha, Mridanga and Pipilika. In sama yati, the same laya is used throughout, that is beginning to end. In strotogata, initially we use slow (vilambit) laya whereas Madhya occurs in the middle and Drut laya comes at the end. When it comes to Gopuchha, exactly inverse order of layas is put to application vis a vis strotogata meaning thereby in the later Druta, Madhya laya and Vilambit laya occurs in the first, middle and last order. In Mridanga, drut laya is used at the outset as well as at the end and Madhya laya is used amidst thereof. In Pipilika, vilambit laya occurs in the beginning, at the end while madhya laya is used in middle order, hence 'Yati' is an important aspect of tala's Das Pranas.

Read the above passage and answer the following questions:

Drut in the beginning and end, and Madhya laya in the middle is:

1. Sama
2. Pipilika
3. Gopuccha
4. Mridanga

**Options :**

485584134513. 1
485584134514. 2
485584134515. 3
485584134516. 4

**Question Number : 264 Question Id : 48558433629 Question Type : MCQ Option Shuffling : No Is Question Mandatory : No Calculator : None Response Time : N.A Think Time : N.A Minimum Instruction Time : 0**

**Correct Marks : 5 Wrong Marks : 1**

**Question Key Details :**

Key	Value
Comprehension	Comp3

ഇന്ത്യൻ താളത്തിൽ ലയത്തിന് വലിയ പ്രാധാന്യമുണ്ട്. ലയയെ അതിസ്ഥാനപരമായി 'വിളമ്പിക്, മധ്യ, ഭ്രൂത്' എന്നിങ്ങനെ മൂന്നായി തരം തിരിച്ചിരിക്കുന്നു. ലയത്തിന്റെ വിവിധ രൂപങ്ങളിലുള്ള പ്രയോഗത്തിന്റെ നിയമത്തെ "യതി" എന്ന് വിളിക്കുന്നു. യതി - "ഗതി" യുടെ പ്രയോഗത്തെ സൂചിപ്പിക്കുന്നു. യതിയെ 'സാമ, സ്ട്രാട്ടോഗാദ, ഗോപുച്ഛ, മൃദംഗ, പിപിലിക' എന്നിങ്ങനെ അഞ്ചായി വിഭജിച്ചിരിക്കുന്നു. 'സമയതി' യിൽ ആദ്യാവസാനം ഒരേ ലയമാണ് ഉപയോഗിക്കുന്നത്. സ്ട്രാട്ടോഗാദയിൽ, തുടർത്തിൽ നമ്മൾ സ്ലോ വിളമ്പിദ് ലയ ഉപയോഗിക്കുന്നു. മധ്യത്തിൽ മധ്യവും ഭ്രൂത് ലയ അവസാനവും വരുന്നു.

ഗോപുച്ഛയുടെ കാര്യം വരുമ്പോൾ, ലയങ്ങളുടെ കൃത്യമായ വിപരീത ക്രമം വരുമ്പോൾ സ്ട്രാട്ടോഗാദയിൽ പ്രയോഗിക്കുന്നു. അതുവഴി പിന്നീടുള്ള ഭ്രൂത്, മധ്യ, ലയ, വിളമ്പിദ് ലയ എന്നിവ ആദ്യ, മധ്യ, അവസാന ക്രമത്തിൽ സംഭവിക്കുന്നു. മൃദംഗത്തിൽ, തുടർക്കത്തിലും അവസാന ഭാഗത്തും ഭ്രൂത് ലയയും, അതിനിടയിൽ മധ്യ ലയയും ഉപയോഗിക്കുന്നു.

പിപിലികയിൽ, ആരംഭത്തിലും അവസാന ഭാഗത്തും വിളമ്പിദ് ലയ വരുന്നു. മധ്യലയയാണ് മധ്യ നിരയിൽ ഉപയോഗിക്കുന്നത്. അതിനാൽ "യതി" താളത്തിന്റെ പത്ത് പ്രണയുടെ ഒരു ഘടകമാണ്.

ആരംഭത്തിലും അവസാനത്തിലും ഭ്രൂത്, മധ്യത്തിൽ മധ്യ ലയം :-

1. സാമ
2. പിപിലിക
3. ഗോപുച്ഛ
4. മൃദംഗം

**Options :**

- 485584134513. 1
- 485584134514. 2
- 485584134515. 3
- 485584134516. 4

**Question Number : 265 Question Id : 48558433630 Question Type : MCQ Option Shuffling : No Is Question Mandatory : No Calculator : None Response Time : N.A Think Time : N.A Minimum Instruction Time : 0**

**Correct Marks : 5 Wrong Marks : 1**

**Question Key Details :**

Key	Value
Comprehension	Comp3

There is a great importance of laya in Indian Talas. Laya has been categorised basically into three types - Vilambit, Madhya and Druta. The rule of application in various forms of laya is called 'Yati'. Yati denotes application of 'gati'. Yati has been classified into five types, Sama, Strotogata, Gopuchha, Mridanga and Pipilika. In sama yati, the same laya is used throughout, that is beginning to end. In strotogata, initially we use slow (vilambit) laya whereas Madhya occurs in the middle and Drut laya comes at the end. When it comes to Gopuchha, exactly inverse order of layas is put to application vis a vis strotogata meaning thereby in the later Druta, Madhya laya and Vilambit laya occurs in the first, middle and last order. In Mridanga, drut laya is used at the outset as well as at the end and Madhya laya is used amidst thereof. In Pipilika, vilambit laya occurs in the beginning, at the end while madhya laya is used in middle order, hence 'Yati' is an important aspect of tala's Das Pranas.

Read the above passage and answer the following questions:

The sequence of laya in strotogata is:

1. Vilambit - Madhya - Drut
2. Drut - Madhya - Drut
3. Drut - Drut - Madhya
4. Madhya - Vilambit - Drut

**Options :**

- 485584134517. 1
- 485584134518. 2
- 485584134519. 3
- 485584134520. 4

**Question Number : 265 Question Id : 48558433630 Question Type : MCQ Option Shuffling : No Is Question Mandatory : No Calculator : None Response Time : N.A Think Time : N.A Minimum Instruction Time : 0**

**Correct Marks : 5 Wrong Marks : 1**

**Question Key Details :**

Key	Value
Comprehension	Comp3

ഇന്ത്യൻ താളത്തിൽ ലയത്തിന് വലിയ പ്രാധാന്യമുണ്ട്. ലയയെ അതിസ്ഥാനപരമായി 'വിളമ്പിക്, മധ്യ, ദ്രുത' എന്നിങ്ങനെ മൂന്നായി തരം തിരിച്ചിരിക്കുന്നു. ലയത്തിന്റെ വിവിധ രൂപങ്ങളിലുള്ള പ്രയോഗത്തിന്റെ നിയമത്തെ "യതി" എന്ന് വിളിക്കുന്നു. യതി - "ഗതി" യുടെ പ്രയോഗത്തെ സൂചിപ്പിക്കുന്നു. യതിയെ 'സാമ, സ്ത്രോട്ടോഗാദ, ഗോപുച്ഛ, മൃദംഗ, പിപിലിക്' എന്നിങ്ങനെ അഞ്ചായി വിഭജിച്ചിരിക്കുന്നു. 'സമയതി' യിൽ ആദ്യാവസാനം ഒരേ ലയമാണ് ഉപയോഗിക്കുന്നത്. സ്ത്രോട്ടോഗാദയിൽ, തുടർത്തിൽ നമ്മൾ സ്ലോ [വിളമ്പിദ്] ലയ ഉപയോഗിക്കുന്നു. മധ്യത്തിൽ മധ്യവും ദ്രുത ലയ അവസാനവും വരുന്നു.

ഗോപുച്ഛയുടെ കാര്യം വരുമ്പോൾ, ലയങ്ങളുടെ കൃത്യമായ വിപരീത ക്രമം വരുമ്പോൾ സ്ത്രോട്ടോഗാദയിൽ പ്രയോഗിക്കുന്നു. അതുവഴി പിന്നീടുള്ള ദ്രുത, മധ്യ, ലയ, വിളമ്പിദ് ലയ എന്നിവ ആദ്യ, മധ്യ, അവസാന ക്രമത്തിൽ സംഭവിക്കുന്നു. മൃദംഗത്തിൽ, തുടർത്തിലും അവസാന ഭാഗത്തും ദ്രുത ലയയും, അതിനിടയിൽ മധ്യ ലയയും ഉപയോഗിക്കുന്നു.

പിപിലികയിൽ, ആരംഭത്തിലും അവസാന ഭാഗത്തും വിളമ്പിദ് ലയ വരുന്നു. മധ്യലയയാണ് മധ്യ നിരയിൽ ഉപയോഗിക്കുന്നത്. അതിനാൽ "യതി" താളത്തിന്റെ പത്ത് പ്രണയുടെ ഒരു ഘടകമാണ്.

സ്ട്രാറ്റോ ഗാദയിലെ ലയയുടെ ക്രമം ഇതാണ് :-

1. വിളമ്പിൾ - മധ്യ - ഭൂത്
2. ഭൂത് - മധ്യ - ഭൂത്
3. ഭൂത് - ഭൂത് - മധ്യ
4. മധ്യ - വിളമ്പിൾ - ഭൂത്

**Options :**

485584134517. 1  
485584134518. 2  
485584134519. 3  
485584134520. 4

**Sub-Section Number :** 4  
**Sub-Section Id :** 4855842437  
**Question Shuffling Allowed :** No  
**Is Section Default? :** null

**Question Number : 266 Question Id : 48558433631 Question Type : MCQ Option Shuffling : No Is Question Mandatory : No Calculator : None Response Time : N.A Think Time : N.A Minimum Instruction Time : 0**

**Correct Marks : 5 Wrong Marks : 1**

**Question Key Details :**

Key	Value
Comprehension	Comp4

Read the following passage and answer the questions given below:

Sangeet Natak Akademi (SNA)

The SNA was established on 31 May 1952. In his speech at the inauguration on 28 January 1953, Maulana Azad (1888-1958), then Union Minister for Education and later founder of the Indian Council for Cultural Relations (ICCR), said that the aim of the SNA was to 'preserve our traditions by offering them an institutional form'.

The SNA's mission, stated in its Memorandum of Association is:

To promote research in the fields of Indian music, dance and drama and for this purpose to establish a library and a museum; to encourage the exchange of ideas and enrichment of techniques between the different regions in regard to the arts of music, dance and drama; to publish research on Indian performing arts; to revive and preserve folk traditions in different regions; to sponsor and encourage festival, seminars and conferences; to give recognition to individual artists for outstanding achievement; to foster cultural contacts between different regions of the country and with other countries; and to cooperate with similar Akademis, institutions and associations for the furtherance of these objectives

With respect to theatre, the SNA holds workshops for playwrights; funds interstate cultural exchange programmes; funds research in the traditional performing arts; offers financial support to cultural institutions; organizes festivals of modern theatre, traditional performance, shadow theatre, marionette theatre and other forms of puppetry; gives awards and fellowship to distinguished artists; collects audiotapes, videos and photographs; and maintains an audiovisual archive as well as a library.

When was the Sangeet Natak Akademi inaugurated?

- 1. 1952
- 2. 1953
- 3. 1954
- 4. 1950

**Options :**

- 485584134521. 1
- 485584134522. 2
- 485584134523. 3
- 485584134524. 4

**Question Number : 266 Question Id : 48558433631 Question Type : MCQ Option Shuffling : No Is Question Mandatory : No Calculator : None Response Time : N.A Think Time : N.A Minimum Instruction Time : 0**

**Correct Marks : 5 Wrong Marks : 1**

**Question Key Details :**

Key	Value
Comprehension	Comp4

ആസാദ് [1888-1958] പറഞ്ഞു, “ നമ്മുടെ പാരമ്പര്യങ്ങൾക്ക് ഒരു സ്ഥാപന രൂപം നൽകി അവരെ സംരക്ഷിക്കുന്നതിനാണ് സംഗീത നാടക അക്കാദമിയെന്ന്”.

ഇന്ത്യൻ സംഗീതം, നൃത്തം, നാടകം എന്നീ മേഖലകളിൽ ഗവേഷണം പ്രോത്സാഹിപ്പിക്കുന്നതിനും അതിനായി ഒരു ലൈബ്രറിയും മ്യൂസിയവും സ്ഥാപിക്കുകയാണ് സംഗീത നാടക അക്കാദമിയുടെ ലക്ഷ്യം , എന്നതാണ് അതിന്റെ ധാരണാപത്രത്തിൽ പറഞ്ഞിരിക്കുന്നത്.

സംഗീതം, നൃത്തം, നാടകം എന്നീ കലകളുമായി ബന്ധപ്പെട്ട് വിവിധ പ്രദേശങ്ങൾക്കിടയിൽ ആശയങ്ങളുടെ കൈമാറ്റവും സാങ്കേതിക വിദ്യകളുടെ സമ്പുഷ്ടീകരണവും പ്രോത്സാഹിപ്പിക്കേണ്ടതിനെ കുറിച്ച് സംഗീത നാടക അക്കാദമി മിഷൻ അതിന്റെ ധാരണാ പത്രത്തിൽ പ്രസ്താവിച്ചതിങ്ങനെയാണ്. “പ്രകടനാത്മകമായ ഇന്ത്യൻ കലകളെ കുറിച്ചുള്ള ഗവേഷണം പ്രസിദ്ധീകരിക്കാൻ; വിവിധ പ്രദേശങ്ങളിലെ നാടോടി പാരമ്പര്യങ്ങളെ പുനരുജ്ജീവിപ്പിക്കാനും സംരക്ഷിക്കുവാനും; കലോത്സവം, സെമിനാറുകൾ, കോൺഫറൻസുകൾ എന്നിവ സപോൺസർ ചെയ്യാനും, പ്രോത്സാഹിപ്പിക്കുവാനും വ്യക്തികൾക്ക് അംഗീകാരം നൽകുവാനും; കൂടാതെ, മികച്ച നേട്ടത്തിന് കലാകാരന്മാർ, രാജ്യത്തിന്റെ വിവിധ പ്രദേശങ്ങൾക്കിടയിലും മറ്റ് രാജ്യങ്ങളുമായും സാംസ്കാരിക ബന്ധങ്ങൾ വളർത്തിയെടുക്കുവാനും. ഈ ലക്ഷ്യങ്ങളുടെ പുരോഗതിക്കായി സമാന അക്കാദമികളുമായും സ്ഥാപനങ്ങളുമായും അസോസിയേഷനുകളുമായും സഹകരിക്കും”.

നാടക രംഗത്തെ സംബന്ധിച്ചിടത്തോളം, നാടകകൃത്തുക്കൾക്കായി സംഗീത നാടക അക്കാദമി ശിൽപശാലകൾ നടത്തുന്നു. അന്തർ സംസ്ഥാന-സാംസ്കാരിക വിനിമയ പരിപാടികൾക്ക് സാമ്പത്തിക സഹായം [ഫണ്ടുകൾ] നൽകുന്നു; സാംസ്കാരിക സ്ഥാപനങ്ങൾക്ക് സാമ്പത്തിക സഹായം വാഗ്ദാനം ചെയ്യുന്നു; ആധുനിക നാടക വേദി, പരമ്പരാഗത പ്രകടനങ്ങൾ, ഷാഡോ തിയേറ്റർ; മരിയനറ്റ് തിയേറ്റർ, പാവകളിയുടെ മറ്റ് രൂപങ്ങൾ എന്നിവയുടെ കലോത്സവങ്ങൾ സംഘടിപ്പിക്കുന്നു; വിശിഷ്ട കലാകാരന്മാർക്ക് അവാർഡുകളും ഫെലോഷിപ്പും നൽകുന്നു; ഓഡിയോ ടേപ്പുകൾ, വീഡിയോകൾ, ഫോട്ടോ ഗ്രാഫുകൾ എന്നിവ ശേഖരിക്കുകയും അപ്രകാരം ഓഡിയോ വിഷ്വൽ ശേഖരങ്ങളുടെ ലൈബ്രറിയും സംഗീത നാടക അക്കാദമിയുടെ കീഴിൽ പരിപാലിക്കുകയും ചെയ്യുന്നു.



സംഗീത നാടക അക്കാദമി ഉദ്ഘാടനം ചെയ്തത് എപ്പോഴാണ്?

1. 1952
2. 1953
3. 1954
4. 1950

**Options :**

- 485584134521. 1
- 485584134522. 2
- 485584134523. 3
- 485584134524. 4

**Question Number : 267 Question Id : 48558433632 Question Type : MCQ Option Shuffling : No Is Question Mandatory : No Calculator : None Response Time : N.A Think Time : N.A Minimum Instruction Time : 0**

**Correct Marks : 5 Wrong Marks : 1**

**Question Key Details :**

Key	Value
Comprehension	Comp4

Read the following passage and answer the questions given below:

Sangeet Natak Akademi (SNA)

The SNA was established on 31 May 1952. In his speech at the inauguration on 28 January 1953, Maulana Azad (1888-1958), then Union Minister for Education and later founder of the Indian Council for Cultural Relations (ICCR), said that the aim of the SNA was to 'preserve our traditions by offering them an institutional form'.

The SNA's mission, stated in its Memorandum of Association is:

To promote research in the fields of Indian music, dance and drama and for this purpose to establish a library and a museum; to encourage the exchange of ideas and enrichment of techniques between the different regions in regard to the arts of music, dance and drama; to publish research on Indian performing arts; to revive and preserve folk traditions in different regions; to sponsor and encourage festival, seminars and conferences; to give recognition to individual artists for outstanding achievement; to foster cultural contacts between different regions of the country and with other countries; and to cooperate with similar Akademis, institutions and associations for the furtherance of these objectives

With respect to theatre, the SNA holds workshops for playwrights; funds interstate cultural exchange programmes; funds research in the traditional performing arts; offers financial support to cultural institutions; organizes festivals of modern theatre, traditional performance, shadow theatre, marionette theatre and other forms of puppetry; gives awards and fellowship to distinguished artists; collects audiotapes, videos and photographs; and maintains an audiovisual archive as well as a library.

Who among the following was independent India's first Union Minister for Education?

- 1. Babasaheb Ambedkar
- 2. Sardar Vallabhbhai Patel
- 3. Maulana Azad
- 4. Rajendra Prasad

**Options :**

- 485584134525. 1
- 485584134526. 2
- 485584134527. 3
- 485584134528. 4

**Question Number : 267 Question Id : 48558433632 Question Type : MCQ Option Shuffling : No Is Question Mandatory : No Calculator : None Response Time : N.A Think Time : N.A Minimum Instruction Time : 0**

**Correct Marks : 5 Wrong Marks : 1**

**Question Key Details :**

Key	Value
Comprehension	Comp4

ആസാദ് [1888-1958] പറഞ്ഞു, “ നമ്മുടെ പാരമ്പര്യങ്ങൾക്ക് ഒരു സ്ഥാപന രൂപം നൽകി അവരെ സംരക്ഷിക്കുന്നതിനാണ് സംഗീത നാടക അക്കാദമിയെന്ന്”.

ഇന്ത്യൻ സംഗീതം, നൃത്തം, നാടകം എന്നീ മേഖലകളിൽ ഗവേഷണം പ്രോത്സാഹിപ്പിക്കുന്നതിനും അതിനായി ഒരു ലൈബ്രറിയും മ്യൂസിയവും സ്ഥാപിക്കുകയാണ് സംഗീത നാടക അക്കാദമിയുടെ ലക്ഷ്യം , എന്നതാണ് അതിന്റെ ധാരണാപത്രത്തിൽ പറഞ്ഞിരിക്കുന്നത്.

സംഗീതം, നൃത്തം, നാടകം എന്നീ കലകളുമായി ബന്ധപ്പെട്ട് വിവിധ പ്രദേശങ്ങൾക്കിടയിൽ ആശയങ്ങളുടെ കൈമാറ്റവും സാങ്കേതിക വിദ്യകളുടെ സമ്പുഷ്ടീകരണവും പ്രോത്സാഹിപ്പിക്കേണ്ടതിനെ കുറിച്ച് സംഗീത നാടക അക്കാദമി മിഷൻ അതിന്റെ ധാരണാ പത്രത്തിൽ പ്രസ്താവിച്ചതിങ്ങനെയാണ്. “പ്രകടനാത്മകമായ ഇന്ത്യൻ കലകളെ കുറിച്ചുള്ള ഗവേഷണം പ്രസിദ്ധീകരിക്കാൻ; വിവിധ പ്രദേശങ്ങളിലെ നാടോടി പാരമ്പര്യങ്ങളെ പുനരുജ്ജീവിപ്പിക്കാനും സംരക്ഷിക്കുവാനും; കലോത്സവം, സെമിനാറുകൾ, കോൺഫറൻസുകൾ എന്നിവ സ്പോൺസർ ചെയ്യാനും, പ്രോത്സാഹിപ്പിക്കുവാനും വ്യക്തികൾക്ക് അംഗീകാരം നൽകുവാനും; കൂടാതെ, മികച്ച നേട്ടത്തിന് കലാകാരന്മാർ, രാജ്യത്തിന്റെ വിവിധ പ്രദേശങ്ങൾക്കിടയിലും മറ്റ് രാജ്യങ്ങളുമായും സാംസ്കാരിക ബന്ധങ്ങൾ വളർത്തിയെടുക്കുവാനും. ഈ ലക്ഷ്യങ്ങളുടെ പുരോഗതിക്കായി സമാന അക്കാദമികളുമായും സ്ഥാപനങ്ങളുമായും അസോസിയേഷനുകളുമായും സഹകരിക്കും”.

നാടക രംഗത്തെ സംബന്ധിച്ചിടത്തോളം, നാടകകൃത്തുക്കൾക്കായി സംഗീത നാടക അക്കാദമി ശിൽപശാലകൾ നടത്തുന്നു. അന്തർ സംസ്ഥാന-സാംസ്കാരിക വിനിമയ പരിപാടികൾക്ക് സാമ്പത്തിക സഹായം [ഫണ്ടുകൾ] നൽകുന്നു; സാംസ്കാരിക സ്ഥാപനങ്ങൾക്ക് സാമ്പത്തിക സഹായം വാഗ്ദാനം ചെയ്യുന്നു; ആധുനിക നാടക വേദി, പരമ്പരാഗത പ്രകടനങ്ങൾ, ഷാഡോ തിയേറ്റർ; മരിയനെറ്റ് തിയേറ്റർ, പാവകളിയുടെ മറ്റ് രൂപങ്ങൾ എന്നിവയുടെ കലോത്സവങ്ങൾ സംഘടിപ്പിക്കുന്നു; വിശിഷ്ട കലാകാരന്മാർക്ക് അവാർഡുകളും ഫെലോഷിപ്പും നൽകുന്നു; ഓഡിയോ ടേപ്പുകൾ, വീഡിയോകൾ, ഫോട്ടോ ഗ്രാഫിക്സ് എന്നിവ ശേഖരിക്കുകയും അപ്രകാരം ഓഡിയോ വിഷ്വൽ ശേഖരങ്ങളുടെ ലൈബ്രറിയും സംഗീത നാടക അക്കാദമിയുടെ കീഴിൽ പരിപാലിക്കുകയും ചെയ്യുന്നു.

താഴെ പറയുന്നവയിൽ ആരാണ് സ്വതന്ത്ര ഇന്ത്യയുടെ ആദ്യ കേന്ദ്ര വിദ്യാഭ്യാസ മന്ത്രി?

1. ബാബാ സാഹെബ് അംബേദ്കർ
2. സർദാർ വല്ലഭായി പട്ടേൽ
3. മൗലാനാ ആസാദ്
4. രാജേന്ദ്ര പ്രസാദ്

**Options :**

- 485584134525. 1
- 485584134526. 2
- 485584134527. 3
- 485584134528. 4

**Question Number : 268 Question Id : 48558433633 Question Type : MCQ Option Shuffling : No Is Question Mandatory : No Calculator : None Response Time : N.A Think Time : N.A Minimum Instruction Time : 0**

**Correct Marks : 5 Wrong Marks : 1**

**Question Key Details :**

Key	Value
Comprehension	Comp4

Read the following passage and answer the questions given below:

**Sangeet Natak Akademi (SNA)**

The SNA was established on 31 May 1952. In his speech at the inauguration on 28 January 1953, Maulana Azad (1888-1958), then Union Minister for Education and later founder of the Indian Council for Cultural Relations (ICCR), said that the aim of the SNA was to 'preserve our traditions by offering them an institutional form'.

The SNA's mission, stated in its Memorandum of Association is:

To promote research in the fields of Indian music, dance and drama and for this purpose to establish a library and a museum; to encourage the exchange of ideas and enrichment of techniques between the different regions in regard to the arts of music, dance and drama; to publish research on Indian performing arts; to revive and preserve folk traditions in different regions; to sponsor and encourage festival, seminars and conferences; to give recognition to individual artists for outstanding achievement; to foster cultural contacts between different regions of the country and with other countries; and to cooperate with similar Akademis, institutions and associations for the furtherance of these objectives

With respect to theatre, the SNA holds workshops for playwrights; funds interstate cultural exchange programmes; funds research in the traditional performing arts; offers financial support to cultural institutions; organizes festivals of modern theatre, traditional performance, shadow theatre, marionette theatre and other forms of puppetry; gives awards and fellowship to distinguished artists; collects audiotapes, videos and photographs; and maintains an audiovisual archive as well as a library.

'To preserve our traditions by offering them an institutional form', was the aim of:

1. Indian Council for Cultural Relations
2. National School of Drama
3. Lalitkala Akademi
4. Sangeet Natak Akademi

**Options :**

- 485584134529. 1
- 485584134530. 2
- 485584134531. 3
- 485584134532. 4

**Question Number : 268 Question Id : 48558433633 Question Type : MCQ Option Shuffling : No Is Question Mandatory : No Calculator : None Response Time : N.A Think Time : N.A Minimum Instruction Time : 0**

**Correct Marks : 5 Wrong Marks : 1**

**Question Key Details :**

Key	Value
Comprehension	Comp4

ആസാദ് [1888-1958] പറഞ്ഞു, " നമ്മുടെ പാരമ്പര്യങ്ങൾക്ക് ഒരു സ്ഥാപന രൂപം നൽകി അവരെ സംരക്ഷിക്കുന്നതിനാണ് സംഗീത നാടക അക്കാദമിയെന്ന്".

ഇന്ത്യൻ സംഗീതം, നൃത്തം, നാടകം എന്നീ മേഖലകളിൽ ഗവേഷണം പ്രോത്സാഹിപ്പിക്കുന്നതിനും അതിനായി ഒരു ലൈബ്രറിയും മ്യൂസിയവും സ്ഥാപിക്കുകയാണ് സംഗീത നാടക അക്കാദമിയുടെ ലക്ഷ്യം , എന്നതാണ് അതിന്റെ ധാരണാപത്രത്തിൽ പറഞ്ഞിരിക്കുന്നത്.

സംഗീതം, നൃത്തം, നാടകം എന്നീ കലകളുമായി ബന്ധപ്പെട്ട് വിവിധ പ്രദേശങ്ങൾക്കിടയിൽ ആശയങ്ങളുടെ കൈമാറ്റവും സാങ്കേതിക വിദ്യകളുടെ സമ്പുഷ്ടീകരണവും പ്രോത്സാഹിപ്പിക്കേണ്ടതിനെ കുറിച്ച് സംഗീത നാടക അക്കാദമി മിഷൻ അതിന്റെ ധാരണാ പത്രത്തിൽ പ്രസ്താവിച്ചതിങ്ങനെയാണ്. "പ്രകടനരമകമായ ഇന്ത്യൻ കലകളെ കുറിച്ചുള്ള ഗവേഷണം പ്രസിദ്ധീകരിക്കാൻ; വിവിധ പ്രദേശങ്ങളിലെ നാടോടി പാരമ്പര്യങ്ങളെ പുനരുജ്ജീവിപ്പിക്കാനും സംരക്ഷിക്കുവാനും; കലോത്സവം, സെമിനാറുകൾ, കോൺഫറൻസുകൾ എന്നിവ സ്പോൺസർ ചെയ്യാനും, പ്രോത്സാഹിപ്പിക്കുവാനും വ്യക്തികൾക്ക് അംഗീകാരം നൽകുവാനും; കൂടാതെ, മികച്ച നേട്ടത്തിന് കലാകാരന്മാർ, രാജ്യത്തിന്റെ വിവിധ പ്രദേശങ്ങൾക്കിടയിലും മറ്റ് രാജ്യങ്ങളുമായും സാംസ്കാരിക ബന്ധങ്ങൾ വളർത്തിയെടുക്കുവാനും. ഈ ലക്ഷ്യങ്ങളുടെ പുരോഗതിക്കായി സമാന അക്കാദമികളുമായും സ്ഥാപനങ്ങളുമായും അസോസിയേഷനുകളുമായും സഹകരിക്കും".

നാടക രംഗത്തെ സംബന്ധിച്ചിടത്തോളം, നാടകകൃത്തുക്കൾക്കായി സംഗീത നാടക അക്കാദമി ശിൽപശാലകൾ നടത്തുന്നു. അന്തർ സംസ്ഥാന-സാംസ്കാരിക വിനിമയ പരിപാടികൾക്ക് സാമ്പത്തിക സഹായം [ഫണ്ടുകൾ] നൽകുന്നു; സാംസ്കാരിക സ്ഥാപനങ്ങൾക്ക് സാമ്പത്തിക സഹായം വാഗ്ദാനം ചെയ്യുന്നു; ആധുനിക നാടക വേദി, പരമ്പരാഗത പ്രകടനങ്ങൾ, ഷാഡോ തിയേറ്റർ; മരിയനെറ്റ് തിയേറ്റർ, പാവകളിയുടെ മറ്റ് രൂപങ്ങൾ എന്നിവയുടെ കലോത്സവങ്ങൾ സംഘടിപ്പിക്കുന്നു; വിശിഷ്ട കലാകാരന്മാർക്ക് അവാർഡുകളും ഫെലോഷിപ്പും നൽകുന്നു; ഓഡിയോ ടേപ്പുകൾ, വീഡിയോകൾ, ഫോട്ടോ ഗ്രാഫിക്സ് എന്നിവ ശേഖരിക്കുകയും അപ്രകാരം ഓഡിയോ വിഷ്വൽ ശേഖരങ്ങളുടെ ലൈബ്രറിയും സംഗീത നാടക അക്കാദമിയുടെ കീഴിൽ പരിപാലിക്കുകയും ചെയ്യുന്നു.

ആരുടെ ലക്ഷ്യമായിരുന്നു 'നമ്മുടെ പാരമ്പര്യങ്ങളെ ഒരു സ്ഥാപനപരമായ രൂപം നൽകി സംരക്ഷിക്കുക' യെന്നത് :-

1. ഇന്ത്യൻ കൌൺസിൽ ഫോർ കൾച്ചറൽ റിലേഷൻസ്
2. നാഷണൽ സ്കൂൾ ഓഫ് ഡ്രാമ
3. ലളിത കലാ അക്കാദമി
4. സംഗീത നാടക അക്കാദമി

**Options :**

- 485584134529. 1
- 485584134530. 2
- 485584134531. 3
- 485584134532. 4

**Question Number : 269 Question Id : 48558433634 Question Type : MCQ Option Shuffling : No Is Question Mandatory : No Calculator : None Response Time : N.A Think Time : N.A Minimum Instruction Time : 0**

**Correct Marks : 5 Wrong Marks : 1**

**Question Key Details :**

Key	Value
Comprehension	Comp4

Read the following passage and answer the questions given below:

**Sangeet Natak Akademi (SNA)**

The SNA was established on 31 May 1952. In his speech at the inauguration on 28 January 1953, Maulana Azad (1888-1958), then Union Minister for Education and later founder of the Indian Council for Cultural Relations (ICCR), said that the aim of the SNA was to 'preserve our traditions by offering them an institutional form'.

The SNA's mission, stated in its Memorandum of Association is:

To promote research in the fields of Indian music, dance and drama and for this purpose to establish a library and a museum; to encourage the exchange of ideas and enrichment of techniques between the different regions in regard to the arts of music, dance and drama; to publish research on Indian performing arts; to revive and preserve folk traditions in different regions; to sponsor and encourage festival, seminars and conferences; to give recognition to individual artists for outstanding achievement; to foster cultural contacts between different regions of the country and with other countries; and to cooperate with similar Akademis, institutions and associations for the furtherance of these objectives

With respect to theatre, the SNA holds workshops for playwrights; funds interstate cultural exchange programmes; funds research in the traditional performing arts; offers financial support to cultural institutions; organizes festivals of modern theatre, traditional performance, shadow theatre, marionette theatre and other forms of puppetry; gives awards and fellowship to distinguished artists; collects audiotapes, videos and photographs; and maintains an audiovisual archive as well as a library.

Which among the following is NOT SNA's mission as stated in its Memorandum of Association?

1. To promote research in the fields of Indian Visual Arts
2. To publish research on Indian Performing Arts
3. To revive and preserve folk traditions in different regions
4. To sponsor and encourage festivals, seminars and conferences

**Options :**

- 485584134533. 1
- 485584134534. 2
- 485584134535. 3
- 485584134536. 4

**Question Number : 269 Question Id : 48558433634 Question Type : MCQ Option Shuffling : No Is Question Mandatory : No Calculator : None Response Time : N.A Think Time : N.A Minimum Instruction Time : 0**

**Correct Marks : 5 Wrong Marks : 1**

**Question Key Details :**

Key	Value
Comprehension	Comp4

ആസാദ് [1888-1958] പറഞ്ഞു, “ നമ്മുടെ പാരമ്പര്യങ്ങൾക്ക് ഒരു സ്ഥാപന രൂപം നൽകി അവരെ സംരക്ഷിക്കുന്നതിനാണ് സംഗീത നാടക അക്കാദമിയെന്ന്”.

ഇന്ത്യൻ സംഗീതം, നൃത്തം, നാടകം എന്നീ മേഖലകളിൽ ഗവേഷണം പ്രോത്സാഹിപ്പിക്കുന്നതിനും അതിനായി ഒരു ലൈബ്രറിയും മ്യൂസിയവും സ്ഥാപിക്കുകയാണ് സംഗീത നാടക അക്കാദമിയുടെ ലക്ഷ്യം , എന്നതാണ് അതിന്റെ ധാരണാപത്രത്തിൽ പറഞ്ഞിരിക്കുന്നത്.

സംഗീതം, നൃത്തം, നാടകം എന്നീ കലകളുമായി ബന്ധപ്പെട്ട് വിവിധ പ്രദേശങ്ങൾക്കിടയിൽ ആശയങ്ങളുടെ കൈമാറ്റവും സാങ്കേതിക വിദ്യകളുടെ സമ്പുഷ്ടീകരണവും പ്രോത്സാഹിപ്പിക്കേണ്ടതിനെ കുറിച്ച് സംഗീത നാടക അക്കാദമി മിഷൻ അതിന്റെ ധാരണാ പത്രത്തിൽ പ്രസ്താവിച്ചതിങ്ങനെയാണ്. “പ്രകടനരമകമായ ഇന്ത്യൻ കലകളെ കുറിച്ചുള്ള ഗവേഷണം പ്രസിദ്ധീകരിക്കാൻ; വിവിധ പ്രദേശങ്ങളിലെ നാടോടി പാരമ്പര്യങ്ങളെ പുനരുജ്ജീവിപ്പിക്കാനും സംരക്ഷിക്കുവാനും; കലോത്സവം, സെമിനാറുകൾ, കോൺഫറൻസുകൾ എന്നിവ സ്പോൺസർ ചെയ്യാനും, പ്രോത്സാഹിപ്പിക്കുവാനും വ്യക്തികൾക്ക് അംഗീകാരം നൽകുവാനും; കൂടാതെ, മികച്ച നേട്ടത്തിന് കലാകാരന്മാർ, രാജ്യത്തിന്റെ വിവിധ പ്രദേശങ്ങൾക്കിടയിലും മറ്റ് രാജ്യങ്ങളുമായും സാംസ്കാരിക ബന്ധങ്ങൾ വളർത്തിയെടുക്കുവാനും. ഈ ലക്ഷ്യങ്ങളുടെ പുരോഗതിക്കായി സമാന അക്കാദമികളുമായും സ്ഥാപനങ്ങളുമായും അസോസിയേഷനുകളുമായും സഹകരിക്കും”.

നാടക രംഗത്തെ സംബന്ധിച്ചിടത്തോളം, നാടകകൃത്തുക്കൾക്കായി സംഗീത നാടക അക്കാദമി ശിൽപശാലകൾ നടത്തുന്നു. അന്തർ സംസ്ഥാന-സാംസ്കാരിക വിനിമയ പരിപാടികൾക്ക് സാമ്പത്തിക സഹായം [ഫണ്ടുകൾ] നൽകുന്നു; സാംസ്കാരിക സ്ഥാപനങ്ങൾക്ക് സാമ്പത്തിക സഹായം വാഗ്ദാനം ചെയ്യുന്നു; ആധുനിക നാടക വേദി, പരമ്പരാഗത പ്രകടനങ്ങൾ, ഷാഡോ തിയേറ്റർ; മരിയനെറ്റ് തിയേറ്റർ, പാവകളിയുടെ മറ്റ് രൂപങ്ങൾ എന്നിവയുടെ കലോത്സവങ്ങൾ സംഘടിപ്പിക്കുന്നു; വിശിഷ്ട കലാകാരന്മാർക്ക് അവാർഡുകളും ഫെലോഷിപ്പും നൽകുന്നു; ഓഡിയോ ടേപ്പുകൾ, വീഡിയോകൾ, ഫോട്ടോ ഗ്രാഫിക്സ് എന്നിവ ശേഖരിക്കുകയും അപ്രകാരം ഓഡിയോ വിഷ്വൽ ശേഖരങ്ങളുടെ ലൈബ്രറിയും സംഗീത നാടക അക്കാദമിയുടെ കീഴിൽ പരിപാലിക്കുകയും ചെയ്യുന്നു.

അസോസിയേഷന്റെ മെമ്പോറാണ്ടത്തിൽ പറഞ്ഞിരിക്കുന്നതുപോലെ ചുവടെ ചേർത്തിരിക്കുന്നതിൽ ഏതാണ് എസ്. എൻ എ. എ. യുടെ ദൗത്യം അല്ലാത്തത്?

1. ഇന്ത്യൻ വിഷ്വൽ ആർട്ട്സ് മേഖലകളിൽ ഗവേഷണം പ്രോത്സാഹിപ്പിക്കുക.
2. ഇന്ത്യൻ അവതരണ കലകളെക്കുറിച്ചുള്ള ഗവേഷണം പ്രസിദ്ധീകരിക്കും.
3. വിവിധ പ്രദേശങ്ങളിലെ നാടോടി പാരമ്പര്യങ്ങളെ പുനരുജ്ജീവിപ്പിക്കുവാനും സംരക്ഷിക്കാനും.
4. ഉത്സവങ്ങൾ, സെമിനാറുകൾ, കോൺഫറൻസുകൾ എന്നിവ സ്പോൺസർ ചെയ്യാനും കൈമാറാനും.

**Options :**

- 485584134533. 1
- 485584134534. 2
- 485584134535. 3
- 485584134536. 4

**Question Number : 270 Question Id : 48558433635 Question Type : MCQ Option Shuffling : No Is Question Mandatory : No Calculator : None Response Time : N.A Think Time : N.A Minimum Instruction Time : 0**

**Correct Marks : 5 Wrong Marks : 1**

**Question Key Details :**

Key	Value
Comprehension	Comp4

Read the following passage and answer the questions given below:

**Sangeet Natak Akademi (SNA)**

The SNA was established on 31 May 1952. In his speech at the inauguration on 28 January 1953, Maulana Azad (1888-1958), then Union Minister for Education and later founder of the Indian Council for Cultural Relations (ICCR), said that the aim of the SNA was to 'preserve our traditions by offering them an institutional form'.

The SNA's mission, stated in its Memorandum of Association is:

To promote research in the fields of Indian music, dance and drama and for this purpose to establish a library and a museum; to encourage the exchange of ideas and enrichment of techniques between the different regions in regard to the arts of music, dance and drama; to publish research on Indian performing arts; to revive and preserve folk traditions in different regions; to sponsor and encourage festival, seminars and conferences; to give recognition to individual artists for outstanding achievement; to foster cultural contacts between different regions of the country and with other countries; and to cooperate with similar Akademis, institutions and associations for the furtherance of these objectives

With respect to theatre, the SNA holds workshops for playwrights; funds interstate cultural exchange programmes; funds research in the traditional performing arts; offers financial support to cultural institutions; organizes festivals of modern theatre, traditional performance, shadow theatre, marionette theatre and other forms of puppetry; gives awards and fellowship to distinguished artists; collects audiotapes, videos and photographs; and maintains an audiovisual archive as well as a library.

According to the passage, identify the activities conducted by SNA, with respect to theatre.

- A. Funds international cultural exchange programmes
- B. Holds workshops for playwrights
- C. Funds research in the traditional Fine Arts
- D. Offers financial support to cultural institutions
- E. Gives awards and fellowships to distinguished artists

Choose the correct answer from the options given below:

- 1. A, B and D only
- 2. B, D and E only
- 3. B, C and E only
- 4. C, D and E only

**Options :**

- 485584134537. 1
- 485584134538. 2
- 485584134539. 3
- 485584134540. 4

**Question Number : 270 Question Id : 48558433635 Question Type : MCQ Option Shuffling : No Is Question Mandatory : No Calculator : None Response Time : N.A Think Time : N.A Minimum Instruction Time : 0**

**Correct Marks : 5 Wrong Marks : 1**

**Question Key Details :**

Key	Value
Comprehension	Comp4

ആസാദ് [1888-1958] പറഞ്ഞു, “ നമ്മുടെ പാരമ്പര്യങ്ങൾക്ക് ഒരു സ്ഥാപന രൂപം നൽകി അവരെ സംരക്ഷിക്കുന്നതിനാണ് സംഗീത നാടക അക്കാദമിയെന്ന്”.

ഇന്ത്യൻ സംഗീതം, നൃത്തം, നാടകം എന്നീ മേഖലകളിൽ ഗവേഷണം പ്രോത്സാഹിപ്പിക്കുന്നതിനും അതിനായി ഒരു ലൈബ്രറിയും മ്യൂസിയവും സ്ഥാപിക്കുകയാണ് സംഗീത നാടക അക്കാദമിയുടെ ലക്ഷ്യം , എന്നതാണ് അതിന്റെ ധാരണാപത്രത്തിൽ പറഞ്ഞിരിക്കുന്നത്.

സംഗീതം, നൃത്തം, നാടകം എന്നീ കലകളുമായി ബന്ധപ്പെട്ട് വിവിധ പ്രദേശങ്ങൾക്കിടയിൽ ആശയങ്ങളുടെ കൈമാറ്റവും സാങ്കേതിക വിദ്യകളുടെ സമ്പുഷ്ടീകരണവും പ്രോത്സാഹിപ്പിക്കേണ്ടതിനെ കുറിച്ച് സംഗീത നാടക അക്കാദമി മിഷൻ അതിന്റെ ധാരണാ പത്രത്തിൽ പ്രസ്താവിച്ചതിങ്ങനെയാണ്. “പ്രകടനാത്മകമായ ഇന്ത്യൻ കലകളെ കുറിച്ചുള്ള ഗവേഷണം പ്രസിദ്ധീകരിക്കാൻ; വിവിധ പ്രദേശങ്ങളിലെ നാടോടി പാരമ്പര്യങ്ങളെ പുനരുജ്ജീവിപ്പിക്കാനും സംരക്ഷിക്കുവാനും; കലോത്സവം, സെമിനാറുകൾ, കോൺഫറൻസുകൾ എന്നിവ സപോൺസർ ചെയ്യാനും, പ്രോത്സാഹിപ്പിക്കുവാനും വ്യക്തികൾക്ക് അംഗീകാരം നൽകുവാനും; കൂടാതെ, മികച്ച നേട്ടത്തിന് കലാകാരന്മാർ, രാജ്യത്തിന്റെ വിവിധ പ്രദേശങ്ങൾക്കിടയിലും മറ്റ് രാജ്യങ്ങളുമായും സാംസ്കാരിക ബന്ധങ്ങൾ വളർത്തിയെടുക്കുവാനും. ഈ ലക്ഷ്യങ്ങളുടെ പുരോഗതിക്കായി സമാന അക്കാദമികളുമായും സ്ഥാപനങ്ങളുമായും അസോസിയേഷനുകളുമായും സഹകരിക്കും”.

നാടക രംഗത്തെ സംബന്ധിച്ചിടത്തോളം, നാടകകൃത്തുക്കൾക്കായി സംഗീത നാടക അക്കാദമി ശില്പശാലകൾ നടത്തുന്നു. അന്തർ സംസ്ഥാന-സാംസ്കാരിക വിനിമയ പരിപാടികൾക്ക് സാമ്പത്തിക സഹായം ഫണ്ടുകൾ നൽകുന്നു; സാംസ്കാരിക സ്ഥാപനങ്ങൾക്ക് സാമ്പത്തിക സഹായം വാഗ്ദാനം ചെയ്യുന്നു; ആധുനിക നാടക വേദി, പരമ്പരാഗത പ്രകടനങ്ങൾ, ഷാഡോ തിയേറ്റർ; മരിയനെറ്റ് തിയേറ്റർ, പാവകളിയുടെ മറ്റ് രൂപങ്ങൾ എന്നിവയുടെ കലോത്സവങ്ങൾ സംഘടിപ്പിക്കുന്നു; വിശിഷ്ട കലാകാരന്മാർക്ക് അവാർഡുകളും ഫെലോഷിപ്പും നൽകുന്നു; ഓഡിയോ ടേപ്പുകൾ, വീഡിയോകൾ, ഫോട്ടോ ഗ്രാഫുകൾ എന്നിവ ശേഖരിക്കുകയും അപ്രകാരം ഓഡിയോ വിഷ്വൽ ശേഖരങ്ങളുടെ ലൈബ്രറിയും സംഗീത നാടക അക്കാദമിയുടെ കീഴിൽ പരിപാലിക്കുകയും ചെയ്യുന്നു.



മുകളിലെ വിവരണം അനുസരിച്ച്, തിയേറ്ററുമായി ബന്ധപ്പെട്ട് എസ്. എൻ. എ. നടത്തുന്ന പ്രവർത്തനങ്ങൾ തിരിച്ചറിയുക.

- A. അന്താരാഷ്ട്ര - സാംസ്കാരിക വിനിമയ പരിപാടികൾക്ക് ധനസഹായം നൽകുന്നു.
- B. നാടക പ്രവർത്തകർക്കായി ശിൽപശാലകൾ നടത്തുന്നു.
- C. പരമ്പരാഗത ഫൈൻ ആർട്ട്സിലെ ഗവേഷണങ്ങൾക്ക് സാമ്പത്തിക സഹായം നൽകുന്നു.
- D. സംസ്കാരിക സ്ഥാപനങ്ങൾക്ക് സാമ്പത്തിക സഹായം വാഗ്ദാനം ചെയ്യുന്നു.
- E. വിശിഷ്ട കലാകാരന്മാർക്ക് അവാർഡുകളും ഫെല്ലോഷിപ്പും നൽകുന്നു.

- 1. A, B and D only
- 2. B, D and E only
- 3. B, C and E only
- 4. C, D and E only

**Options :**

- 485584134537. 1
- 485584134538. 2
- 485584134539. 3
- 485584134540. 4

**Music**

<b>Section Id :</b>	485584863
<b>Section Number :</b>	2
<b>Section type :</b>	Online
<b>Mandatory or Optional :</b>	Optional
<b>Number of Questions :</b>	25
<b>Number of Questions to be attempted :</b>	20
<b>Section Marks :</b>	100
<b>Enable Mark as Answered Mark for Review and Clear Response :</b>	Yes
<b>Maximum Instruction Time :</b>	0
<b>Sub-Section Number :</b>	1
<b>Sub-Section Id :</b>	4855842438
<b>Question Shuffling Allowed :</b>	Yes
<b>Is Section Default? :</b>	null

**Question Number : 271 Question Id : 48558433636 Question Type : MCQ Option Shuffling : No Is Question Mandatory : No Calculator : None Response Time : N.A Think Time : N.A Minimum Instruction Time : 0**

**Correct Marks : 5 Wrong Marks : 1**

**Question Key Details :**

Key	Value
Comprehension	MCQ1

Writer of our National Anthem -

1. Bankim Chandra Chatterjee
2. Mohammad Iqbal
3. Rabindranath Tagore
4. V. N. Bhatkhande

**Options :**

485584134541. 1  
485584134542. 2  
485584134543. 3  
485584134544. 4

**Question Number : 271 Question Id : 48558433636 Question Type : MCQ Option Shuffling : No Is Question Mandatory : No Calculator : None Response Time : N.A Think Time : N.A Minimum Instruction Time : 0**

**Correct Marks : 5 Wrong Marks : 1**

**Question Key Details :**

Key	Value
Comprehension	MCQ1

നമ്മുടെ ദേശീയഗാനം എഴുതിയത് -

1. ബങ്കിം ചന്ദ്ര ചാറ്റർജി
2. മുഹമ്മദ് ഇക്ബാൽ
3. രവീന്ദ്രനാഥ ടാഗോർ
4. വി. എൻ. ഭട്ടാക്ഖന്ദെ

**Options :**

485584134541. 1  
485584134542. 2  
485584134543. 3  
485584134544. 4

**Question Number : 272 Question Id : 48558433637 Question Type : MCQ Option Shuffling : No Is Question Mandatory : No Calculator : None Response Time : N.A Think Time : N.A Minimum Instruction Time : 0**

**Correct Marks : 5 Wrong Marks : 1**

**Question Key Details :**

Key	Value
Comprehension	MCQ1

While singing Raga Malkauns, the first string of the Tanpura is tuned in:

1. Nishad
2. Madhyam
3. Shadaj
4. Pancham

**Options :**

- 485584134545. 1
- 485584134546. 2
- 485584134547. 3
- 485584134548. 4

**Question Number : 272 Question Id : 48558433637 Question Type : MCQ Option Shuffling : No Is Question Mandatory : No Calculator : None Response Time : N.A Think Time : N.A Minimum Instruction Time : 0**

**Correct Marks : 5 Wrong Marks : 1**

**Question Key Details :**

Key	Value
Comprehension	MCQ1

മാൽകൗൺസ് രാഗം ആലപിക്കുമ്പോൾ, തൻപുരയുടെ ആദ്യ സ്ട്രിംഗ് ട്യൂണ ചെയ്യുന്നത്:

1. നിഷാദ്
2. മധ്യമം
3. ഷാജ്
4. പഞ്ചമം

**Options :**

- 485584134545. 1
- 485584134546. 2
- 485584134547. 3
- 485584134548. 4

**Question Number : 273 Question Id : 48558433638 Question Type : MCQ Option Shuffling : No Is Question Mandatory : No Calculator : None Response Time : N.A Think Time : N.A Minimum Instruction Time : 0**

**Correct Marks : 5 Wrong Marks : 1**

**Question Key Details :**

Key	Value
Comprehension	MCQ1

Kramik Pustak Malika is written by

1. Pt. V. D. Paluskar
2. Pt. Omkar Nath Thakur
3. Ravindranath Tagore
4. Pt. V. N. Bhatkhande

**Options :**

485584134549. 1  
485584134550. 2  
485584134551. 3  
485584134552. 4

**Question Number : 273 Question Id : 48558433638 Question Type : MCQ Option Shuffling : No Is Question Mandatory : No Calculator : None Response Time : N.A Think Time : N.A Minimum Instruction Time : 0**

**Correct Marks : 5 Wrong Marks : 1**

**Question Key Details :**

Key	Value
Comprehension	MCQ1

കാർമിക് പുസ്തക മാലിക എഴുതിയത് :

1. പണ്ഡിത് വി.ടി. പോൾസ്കാർ
2. പണ്ഡിത് ഓം കുമാർ നാഥ് ടാക്കൂർ
3. രവിന്ദ്ര നാഥ ടാഗോർ
4. പണ്ഡിത് ഭട്ടാൻഡേ

**Options :**

485584134549. 1  
485584134550. 2  
485584134551. 3  
485584134552. 4

**Question Number : 274 Question Id : 48558433639 Question Type : MCQ Option Shuffling : No Is Question Mandatory : No Calculator : None Response Time : N.A Think Time : N.A Minimum Instruction Time : 0**

**Correct Marks : 5 Wrong Marks : 1**

**Question Key Details :**

Key	Value
Comprehension	MCQ1

Shadav - Audav Jati has:

1. 6 Swaras in Aroha and 7 Swaras in Avaroha
2. 6 Swaras in Aroha and 5 Swaras in Avaroha
3. 6 Swaras in Aroha and 6 Swaras in Avaroha
4. 5 Swaras in Aroha and 6 Swaras in Avaroha

**Options :**

485584134553. 1  
485584134554. 2  
485584134555. 3  
485584134556. 4

**Question Number : 274 Question Id : 48558433639 Question Type : MCQ Option Shuffling : No Is Question Mandatory : No Calculator : None Response Time : N.A Think Time : N.A Minimum Instruction Time : 0**

**Correct Marks : 5 Wrong Marks : 1**

**Question Key Details :**

Key	Value
Comprehension	MCQ1

ഷാദവ് - ഔദവ് ജതിയിൽ ഉള്ളത് :

1. ആരോഹണത്തിൽ 6 സ്വരങ്ങളും അവരോഹണത്തിൽ 7 സ്വരങ്ങളും
2. ആരോഹണത്തിൽ 6 സ്വരങ്ങളും അവരോഹണത്തിൽ 5 സ്വരങ്ങളും
3. ആരോഹണത്തിൽ 6 സ്വരങ്ങളും അവരോഹണത്തിൽ 6 സ്വരങ്ങളും
4. ആരോഹണത്തിൽ 5 സ്വരങ്ങളും അവരോഹണത്തിൽ 6 സ്വരങ്ങളും

**Options :**

485584134553. 1  
485584134554. 2  
485584134555. 3  
485584134556. 4

**Question Number : 275 Question Id : 48558433640 Question Type : MCQ Option Shuffling : No Is Question Mandatory : No Calculator : None Response Time : N.A Think Time : N.A Minimum Instruction Time : 0**

**Correct Marks : 5 Wrong Marks : 1**

**Question Key Details :**

Key	Value
Comprehension	MCQ1

It is also called 'Sparsh' Swara :

1. Alankar
2. Vadi
3. Kan
4. Khatka

**Options :**

485584134557. 1
485584134558. 2
485584134559. 3
485584134560. 4

**Question Number : 275 Question Id : 48558433640 Question Type : MCQ Option Shuffling : No Is Question Mandatory : No Calculator : None Response Time : N.A Think Time : N.A Minimum Instruction Time : 0**

**Correct Marks : 5 Wrong Marks : 1**

**Question Key Details :**

Key	Value
Comprehension	MCQ1

ഇതിനെ 'സ്പർശ്' സ്വരം എന്നും ശ്വഛിക്യം :

1. അലങ്കാർ
2. വടി
3. കാൻ
4. ഖട്ട

**Options :**

485584134557. 1
485584134558. 2
485584134559. 3
485584134560. 4

**Question Number : 276 Question Id : 48558433641 Question Type : MCQ Option Shuffling : No Is Question Mandatory : No Calculator : None Response Time : N.A Think Time : N.A Minimum Instruction Time : 0**

**Correct Marks : 5 Wrong Marks : 1**

**Question Key Details :**

Key	Value
Comprehension	MCQ1

The first beat (Matra) of the Tala is called:

1. Khali
2. Avartan
3. Tali
4. Sam

**Options :**

485584134561. 1  
485584134562. 2  
485584134563. 3  
485584134564. 4

**Question Number : 276 Question Id : 48558433641 Question Type : MCQ Option Shuffling : No Is Question Mandatory : No Calculator : None Response Time : N.A Think Time : N.A Minimum Instruction Time : 0**

**Correct Marks : 5 Wrong Marks : 1**

**Question Key Details :**

Key	Value
Comprehension	MCQ1

താളത്തിന്റെ ആദ്യ അടി (മാത്ര) യെ വിളിക്കുന്നത്

1. ഖാലി
2. ആവർത്തൻ
3. താലി
4. സാം

**Options :**

485584134561. 1  
485584134562. 2  
485584134563. 3  
485584134564. 4

**Question Number : 277 Question Id : 48558433642 Question Type : MCQ Option Shuffling : No Is Question Mandatory : No Calculator : None Response Time : N.A Think Time : N.A Minimum Instruction Time : 0**

**Correct Marks : 5 Wrong Marks : 1**

**Question Key Details :**

Key	Value
Comprehension	MCQ1

A set of notes to identify a Raga is called:

1. Aroha
2. Avaroha
3. Alap
4. Pakad

**Options :**

485584134565. 1
485584134566. 2
485584134567. 3
485584134568. 4

**Question Number : 277 Question Id : 48558433642 Question Type : MCQ Option Shuffling : No Is Question Mandatory : No Calculator : None Response Time : N.A Think Time : N.A Minimum Instruction Time : 0**

**Correct Marks : 5 Wrong Marks : 1**

**Question Key Details :**

Key	Value
Comprehension	MCQ1

ഒരു രാഗം തിരിച്ചറിയുന്നതിനുള്ള ഒരു കൂട്ടം രാഗങ്ങളെ വിളിക്കുന്നത് :

1. ആരോഹ
2. അവരോഹ
3. ആലപ്
4. പകാട്

**Options :**

485584134565. 1
485584134566. 2
485584134567. 3
485584134568. 4

**Question Number : 278 Question Id : 48558433643 Question Type : MCQ Option Shuffling : No Is Question Mandatory : No Calculator : None Response Time : N.A Think Time : N.A Minimum Instruction Time : 0**

**Correct Marks : 5 Wrong Marks : 1**

**Question Key Details :**

Key	Value
Comprehension	MCQ1



Elaboration of notes of a Raga in slow tempo is known as:

1. Gram
2. Murchhana
3. Tana
4. Alap

**Options :**

485584134569. 1  
485584134570. 2  
485584134571. 3  
485584134572. 4

**Question Number : 278 Question Id : 48558433643 Question Type : MCQ Option Shuffling : No Is Question Mandatory : No Calculator : None Response Time : N.A Think Time : N.A Minimum Instruction Time : 0**

**Correct Marks : 5 Wrong Marks : 1**

**Question Key Details :**

Key	Value
Comprehension	MCQ1

ഒരു സ്വരത്തിന്റെ മന്ദതാളത്തിന്റെ സൂക്ഷ്മ നിരീക്ഷണം അറിയപ്പെടുന്നത് :

1. ഗ്രാം
2. മുർച്ചന
3. തന
4. ആലാപ്

**Options :**

485584134569. 1  
485584134570. 2  
485584134571. 3  
485584134572. 4

**Question Number : 279 Question Id : 48558433644 Question Type : MCQ Option Shuffling : No Is Question Mandatory : No Calculator : None Response Time : N.A Think Time : N.A Minimum Instruction Time : 0**

**Correct Marks : 5 Wrong Marks : 1**

**Question Key Details :**

Key	Value
Comprehension	MCQ1

Mushtaq Ali Khan belonged to:

1. Jaipur Gharana
2. Senia Gharana
3. Kirana Gharana
4. Agra Gharana

**Options :**

485584134573. 1  
485584134574. 2  
485584134575. 3  
485584134576. 4

**Question Number : 279 Question Id : 48558433644 Question Type : MCQ Option Shuffling : No Is Question Mandatory : No Calculator : None Response Time : N.A Think Time : N.A Minimum Instruction Time : 0**

**Correct Marks : 5 Wrong Marks : 1**

**Question Key Details :**

Key	Value
Comprehension	MCQ1

മുഷ്താഖ് അലി ഖാൻ ഭാഗമായിരിക്കുന്നത് :

1. ജയ്പൂർ ഘാരാന
2. സെനിയ ഘാരാന
3. കിരാന ഘാരാന
4. ആഗ്ര ഘാരാന

**Options :**

485584134573. 1  
485584134574. 2  
485584134575. 3  
485584134576. 4

**Question Number : 280 Question Id : 48558433645 Question Type : MCQ Option Shuffling : No Is Question Mandatory : No Calculator : None Response Time : N.A Think Time : N.A Minimum Instruction Time : 0**

**Correct Marks : 5 Wrong Marks : 1**

**Question Key Details :**

Key	Value
Comprehension	MCQ1

Tala played with Maseetkhani Gat is:

1. Ektala
2. Teentala
3. Sooltala
4. Keharwa

**Options :**

485584134577. 1  
485584134578. 2  
485584134579. 3  
485584134580. 4

**Question Number : 280 Question Id : 48558433645 Question Type : MCQ Option Shuffling : No Is Question Mandatory : No Calculator : None Response Time : N.A Think Time : N.A Minimum Instruction Time : 0**

**Correct Marks : 5 Wrong Marks : 1**

**Question Key Details :**

Key	Value
Comprehension	MCQ1

മാസീത്ഖാനി ഗാദിനൊപ്പം വായിച്ച താളം :

1. ഏക താളം
2. തീൻ താളം
3. സൂൾ താളം
4. കെഹർവ

**Options :**

485584134577. 1  
485584134578. 2  
485584134579. 3  
485584134580. 4

**Question Number : 281 Question Id : 48558433646 Question Type : MCQ Option Shuffling : No Is Question Mandatory : No Calculator : None Response Time : N.A Think Time : N.A Minimum Instruction Time : 0**

**Correct Marks : 5 Wrong Marks : 1**

**Question Key Details :**

Key	Value
Comprehension	MCQ1

The first half of the Saptak is called:

1. Uttarang
2. Purvang
3. Aroha
4. Avaroha

**Options :**

485584134581. 1  
485584134582. 2  
485584134583. 3  
485584134584. 4

**Question Number : 281 Question Id : 48558433646 Question Type : MCQ Option Shuffling : No Is Question Mandatory : No Calculator : None Response Time : N.A Think Time : N.A Minimum Instruction Time : 0**

**Correct Marks : 5 Wrong Marks : 1**

**Question Key Details :**

Key	Value
Comprehension	MCQ1

'സപ്തകി' ന്റെ ആദ്യ പകുതിയെ വിളിക്കുന്നത് :

1. ഉത്തരാഗ്
2. പുർവാഗ്
3. ആരോഹ
4. അവരോഹ

**Options :**

485584134581. 1  
485584134582. 2  
485584134583. 3  
485584134584. 4

**Question Number : 282 Question Id : 48558433647 Question Type : MCQ Option Shuffling : No Is Question Mandatory : No Calculator : None Response Time : N.A Think Time : N.A Minimum Instruction Time : 0**

**Correct Marks : 5 Wrong Marks : 1**

**Question Key Details :**

Key	Value
Comprehension	MCQ1

Mention the tala with anga's Drutam + Laghu

1. Adi tala
2. Roopaka tala
3. Chapu tala
4. Tripata tala

**Options :**

- 485584134585. 1
- 485584134586. 2
- 485584134587. 3
- 485584134588. 4

**Question Number : 282 Question Id : 48558433647 Question Type : MCQ Option Shuffling : No Is Question Mandatory : No Calculator : None Response Time : N.A Think Time : N.A Minimum Instruction Time : 0**

**Correct Marks : 5 Wrong Marks : 1**

**Question Key Details :**

Key	Value
Comprehension	MCQ1

അംഗ യുടെ ദ്രുതം + ലഘു വച്ച് താളത്തെ പരാമർശിക്കുക:

1. അദി താളം
2. രൂപക താളം
3. ചാപു താളം
4. ത്രിപാത താളം

**Options :**

- 485584134585. 1
- 485584134586. 2
- 485584134587. 3
- 485584134588. 4

**Question Number : 283 Question Id : 48558433648 Question Type : MCQ Option Shuffling : No Is Question Mandatory : No Calculator : None Response Time : N.A Think Time : N.A Minimum Instruction Time : 0**

**Correct Marks : 5 Wrong Marks : 1**

**Question Key Details :**

Key	Value
Comprehension	MCQ1

Laya of Musical composition in fast tempo is known as:

1. Sama laya
2. Drut laya
3. Vilambit laya
4. Madhya laya

**Options :**

485584134589. 1  
485584134590. 2  
485584134591. 3  
485584134592. 4

**Question Number : 283 Question Id : 48558433648 Question Type : MCQ Option Shuffling : No Is Question Mandatory : No Calculator : None Response Time : N.A Think Time : N.A Minimum Instruction Time : 0**

**Correct Marks : 5 Wrong Marks : 1**

**Question Key Details :**

Key	Value
Comprehension	MCQ1

ദ്രുത താളത്തിൽ സംഗീത രചനയുടെ ലയ അറിയപ്പെടുന്നത് :

1. സാ ലയ
2. ദ്രുത ലയ
3. വിളമ്പിട ലയ
4. മധ്യ ലയ

**Options :**

485584134589. 1  
485584134590. 2  
485584134591. 3  
485584134592. 4

**Question Number : 284 Question Id : 48558433649 Question Type : MCQ Option Shuffling : No Is Question Mandatory : No Calculator : None Response Time : N.A Think Time : N.A Minimum Instruction Time : 0**

**Correct Marks : 5 Wrong Marks : 1**

**Question Key Details :**

Key	Value
Comprehension	MCQ1

What is the original name of Purandaradas?

1. Venkatesa
2. Shreenivasa
3. Sreedhara
4. Vasudeva

**Options :**

485584134593. 1  
485584134594. 2  
485584134595. 3  
485584134596. 4

**Question Number : 284 Question Id : 48558433649 Question Type : MCQ Option Shuffling : No Is Question Mandatory : No Calculator : None Response Time : N.A Think Time : N.A Minimum Instruction Time : 0**

**Correct Marks : 5 Wrong Marks : 1**

**Question Key Details :**

Key	Value
Comprehension	MCQ1

പുരന്ദരാസിന്റെ യഥാർത്ഥ നാമം?

1. വെങ്കടേശ
2. ശ്രീനിവാസ
3. ശ്രീധര
4. വാസുദേവ

**Options :**

485584134593. 1  
485584134594. 2  
485584134595. 3  
485584134596. 4

**Question Number : 285 Question Id : 48558433650 Question Type : MCQ Option Shuffling : No Is Question Mandatory : No Calculator : None Response Time : N.A Think Time : N.A Minimum Instruction Time : 0**

**Correct Marks : 5 Wrong Marks : 1**

**Question Key Details :**

Key	Value
Comprehension	MCQ1

Select the tala which has 7 Aksharakalas/Matra

1. Roopakam / Dadra
2. Adi Tala / Teental
3. Chaputala / Roopak
4. Jhampa Tala / Jhaptal

**Options :**

- 485584134597. 1
- 485584134598. 2
- 485584134599. 3
- 485584134600. 4

**Question Number : 285 Question Id : 48558433650 Question Type : MCQ Option Shuffling : No Is Question Mandatory : No Calculator : None Response Time : N.A Think Time : N.A Minimum Instruction Time : 0**

**Correct Marks : 5 Wrong Marks : 1**

**Question Key Details :**

Key	Value
Comprehension	MCQ1

ഏഴ് അക്ഷരകലകൾ (മാത്ര) ഉള്ള താളം തിരഞ്ഞെടുക്കുക

1. രൂപകം/ ദാദ്ര
2. ആദി / തീൻതാൾ
3. ചാപുതാളം/ രൂപകം
4. ജംബ താളം/ ജപ്താൾ

**Options :**

- 485584134597. 1
- 485584134598. 2
- 485584134599. 3
- 485584134600. 4

**Question Number : 286 Question Id : 48558433651 Question Type : MCQ Option Shuffling : No Is Question Mandatory : No Calculator : None Response Time : N.A Think Time : N.A Minimum Instruction Time : 0**

**Correct Marks : 5 Wrong Marks : 1**

**Question Key Details :**

Key	Value
Comprehension	MCQ1



Select the Audava raga from the following:

1. Shankarabharanam
2. Kalyani
3. Sri Ranjani
4. Hindolam

**Options :**

485584134601. 1  
485584134602. 2  
485584134603. 3  
485584134604. 4

**Question Number : 286 Question Id : 48558433651 Question Type : MCQ Option Shuffling : No Is Question Mandatory : No Calculator : None Response Time : N.A Think Time : N.A Minimum Instruction Time : 0**

**Correct Marks : 5 Wrong Marks : 1**

**Question Key Details :**

Key	Value
Comprehension	MCQ1

ചുവടെ ചേർത്തവയിൽ നിന്നും ഔഡവ താളം തിരഞ്ഞെടുക്കുക :

1. ശങ്കരാ ഭരണം
2. കല്യാണി
3. ശ്രീരഞ്ജിനി
4. ഹിന്ദോളം

**Options :**

485584134601. 1  
485584134602. 2  
485584134603. 3  
485584134604. 4

**Question Number : 287 Question Id : 48558433652 Question Type : MCQ Option Shuffling : No Is Question Mandatory : No Calculator : None Response Time : N.A Think Time : N.A Minimum Instruction Time : 0**

**Correct Marks : 5 Wrong Marks : 1**

**Question Key Details :**

Key	Value
Comprehension	MCQ1

The sound emanating from the stringed instruments is known as:

1. Shareeraja
2. Lohaja
3. Charmaja
4. Vayuja

**Options :**

485584134605. 1  
485584134606. 2  
485584134607. 3  
485584134608. 4

**Question Number : 287 Question Id : 48558433652 Question Type : MCQ Option Shuffling : No Is Question Mandatory : No Calculator : None Response Time : N.A Think Time : N.A Minimum Instruction Time : 0**

**Correct Marks : 5 Wrong Marks : 1**

**Question Key Details :**

Key	Value
Comprehension	MCQ1

തന്ത്രി വാദ്യങ്ങളിൽ നിന്ന് പുറപ്പെടുന്ന ശബ്ദം അറിയപ്പെടുന്നത് :

1. ശാരീരാജ
2. ലോഹജ
3. ചരീമജ
4. വായുജ

**Options :**

485584134605. 1  
485584134606. 2  
485584134607. 3  
485584134608. 4

**Question Number : 288 Question Id : 48558433653 Question Type : MCQ Option Shuffling : No Is Question Mandatory : No Calculator : None Response Time : N.A Think Time : N.A Minimum Instruction Time : 0**

**Correct Marks : 5 Wrong Marks : 1**

**Question Key Details :**

Key	Value
Comprehension	MCQ1

A musical form which needs high creative ability:

1. Kriti
2. Padam
3. Pallavi
4. Tillana

**Options :**

485584134609. 1  
485584134610. 2  
485584134611. 3  
485584134612. 4

**Question Number : 288 Question Id : 48558433653 Question Type : MCQ Option Shuffling : No Is Question Mandatory : No Calculator : None Response Time : N.A Think Time : N.A Minimum Instruction Time : 0**

**Correct Marks : 5 Wrong Marks : 1**

**Question Key Details :**

Key	Value
Comprehension	MCQ1

ഉയർന്ന സൃഷ്ടിപരമായ കഴിവ് ആവശ്യമുള്ള ഒരു സംഗീത രൂപം:

1. ക്രിതി
2. പദം
3. പല്ലവി
4. തില്ലാന

**Options :**

485584134609. 1  
485584134610. 2  
485584134611. 3  
485584134612. 4

**Question Number : 289 Question Id : 48558433654 Question Type : MCQ Option Shuffling : No Is Question Mandatory : No Calculator : None Response Time : N.A Think Time : N.A Minimum Instruction Time : 0**

**Correct Marks : 5 Wrong Marks : 1**

**Question Key Details :**

Key	Value
Comprehension	MCQ1

Sa Re Ga Ma Pa Dha Ni swaras belong to:

1. Bhairavi Thata
2. Kafi Thata
3. Asavari Thata
4. Khamaj Thata

**Options :**

485584134613. 1  
485584134614. 2  
485584134615. 3  
485584134616. 4

**Question Number : 289 Question Id : 48558433654 Question Type : MCQ Option Shuffling : No Is Question Mandatory : No Calculator : None Response Time : N.A Think Time : N.A Minimum Instruction Time : 0**

**Correct Marks : 5 Wrong Marks : 1**

**Question Key Details :**

Key	Value
Comprehension	MCQ1

സരീഗമപധനി സ്വരങ്ങൾ ഉൾപ്പെടുന്നതാണ് :

1. ഭൈരവീ താത്ത
2. കാഫി താത്ത
3. അസാവരി താത്ത
4. ഖമാജ് താത്ത

**Options :**

485584134613. 1  
485584134614. 2  
485584134615. 3  
485584134616. 4

**Question Number : 290 Question Id : 48558433655 Question Type : MCQ Option Shuffling : No Is Question Mandatory : No Calculator : None Response Time : N.A Think Time : N.A Minimum Instruction Time : 0**

**Correct Marks : 5 Wrong Marks : 1**

**Question Key Details :**

Key	Value
Comprehension	MCQ1

Select two 'THATA' / MELA from the following:

- A. Kalyan / Kalyani
- B. Malkauns / Hindolam
- C. Bhupali / Mohanam
- D. Bhairav / Mayamalavganla
- E. Bageshree / Sriranjani

Choose the correct answer from the options given below:

- 1. A and B only
- 2. B and C only
- 3. A and D only
- 4. B and E only

**Options :**

- 485584134617. 1
- 485584134618. 2
- 485584134619. 3
- 485584134620. 4

**Question Number : 290 Question Id : 48558433655 Question Type : MCQ Option Shuffling : No Is Question Mandatory : No Calculator : None Response Time : N.A Think Time : N.A Minimum Instruction Time : 0**

**Correct Marks : 5 Wrong Marks : 1**

**Question Key Details :**

Key	Value
Comprehension	MCQ1

താഴെ ചേർത്തിരിക്കുന്നവയിൽ നിന്നും രണ്ട് താത്ത്/ മേളം തിരഞ്ഞെടുക്കുക:

- A. കല്യാൺ / കല്യാണി
- B. മാൽകൌൺസ് / ഹിന്ദോളം
- C. ഭൂപാളി/ മോഹനം
- D. ഭൈരവ/ മായാമാലവ്ഗൺള
- E. ഭാഗശ്രീ/ ശ്രീരഞ്ജിനി

ചുവടെ തന്നിരിക്കുന്നവയിൽ നിന്നും ശരിയായ ഉത്തരം തിരഞ്ഞെടുക്കുക

- 1. ഉത്തരം A ഉം B ഉം മാത്രം ശരിയാണ്
- 2. ഉത്തരം B ഉം C ഉം മാത്രം ശരിയാണ്
- 3. ഉത്തരം A ഉം D ഉം മാത്രം ശരിയാണ്
- 4. ഉത്തരം B ഉം E ഉം മാത്രം ശരിയാണ്

**Options :**

- 485584134617. 1
- 485584134618. 2
- 485584134619. 3
- 485584134620. 4

**Question Number : 291 Question Id : 48558433656 Question Type : MCQ Option Shuffling : No Is Question Mandatory : No Calculator : None Response Time : N.A Think Time : N.A Minimum Instruction Time : 0**

**Correct Marks : 5 Wrong Marks : 1**

**Question Key Details :**

Key	Value
Comprehension	MCQ1

Three qualities of Nad are:

- A. Swara
- B. Pitch
- C. Intensity
- D. Alankar
- E. Timbre

Choose the correct answer from the options given below:

- 1. A, B and C only
- 2. B, C and E only
- 3. A, D and E only
- 4. B, C and D only

**Options :**

- 485584134621. 1
- 485584134622. 2
- 485584134623. 3
- 485584134624. 4

**Question Number : 291 Question Id : 48558433656 Question Type : MCQ Option Shuffling : No Is Question Mandatory : No Calculator : None Response Time : N.A Think Time : N.A Minimum Instruction Time : 0**

**Correct Marks : 5 Wrong Marks : 1**

**Question Key Details :**

Key	Value
Comprehension	MCQ1

നാദത്തിന്റെ മൂന്ന് ഗുണങ്ങൾ:

- A. സ്വര
- B. ശ്രുതി
- C. തീവ്രത
- D. അലങ്കാരം
- E. ടിമ്പർ

താഴെ തന്നിട്ടുള്ളവയിൽ നിന്നും ശരിയായ ഉത്തരം തിരഞ്ഞെടുക്കുക

- 1. ഉത്തരം A, B ഉം C മാത്രം
- 2. ഉത്തരം B, C ഉം E മാത്രം
- 3. ഉത്തരം A, D ഉം E മാത്രം
- 4. ഉത്തരം B, C ഉം D മാത്രം

**Options :**

- 485584134621. 1
- 485584134622. 2
- 485584134623. 3
- 485584134624. 4

**Question Number : 292 Question Id : 48558433657 Question Type : MCQ Option Shuffling : No Is Question Mandatory : No Calculator : None Response Time : N.A Think Time : N.A Minimum Instruction Time : 0 Correct Marks : 5 Wrong Marks : 1**

**Question Key Details :**

Key	Value
Comprehension	MCQ1

Match List I with List II

LIST I		LIST II	
A.	Vilambit Khayal	I.	Tillana
B.	Tarana	II.	Kriti
C.	Thumri	III.	Maseetkhani Gat
D.	Khayal	IV.	Padam

Choose the correct answer from the options given below:

- 1. A-I, B-III, C-II, D-IV
- 2. A-II, B-I, C-IV, D-III
- 3. A-III, B-I, C-IV, D-II
- 4. A-IV, B-II, C-I, D-III

**Options :**

- 485584134625. 1
- 485584134626. 2
- 485584134627. 3
- 485584134628. 4

Question Number : 292 Question Id : 48558433657 Question Type : MCQ Option Shuffling : No Is Question Mandatory : No Calculator : None Response Time : N.A Think Time : N.A Minimum Instruction Time : 0  
 Correct Marks : 5 Wrong Marks : 1  
 Question Key Details :

Key	Value
Comprehension	MCQ1

അനുയോജ്യമായവ ചേർത്തെഴുതുക

LIST I		LIST II	
A.	വിളമ്പിൽ ഖയാൽ	I.	തിഴാന
B.	താരനാ	II.	കൃതി
C.	തുംമി	III.	മാസീദാനി ഗാഥ്
D.	ഖയാൽ	IV.	പദം

ചുവടെ ചേർത്തതിൽ നിന്നും ശരിയായ ഉത്തരം തിരഞ്ഞെടുക്കുക

1. A-I, B-III, C-II, D-IV
2. A-II, B-I, C-IV, D-III
3. A-III, B-I, C-IV, D-II
4. A-IV, B-II, C-I, D-III

Options :

- 485584134625. 1
- 485584134626. 2
- 485584134627. 3
- 485584134628. 4

Question Number : 293 Question Id : 48558433658 Question Type : MCQ Option Shuffling : No Is Question Mandatory : No Calculator : None Response Time : N.A Think Time : N.A Minimum Instruction Time : 0  
 Correct Marks : 5 Wrong Marks : 1  
 Question Key Details :

Key	Value
Comprehension	MCQ1



Match List I with List II

LIST I		LIST II	
A.	Nada	I.	Avroha
B.	Shruti	II.	Vivadi
C.	Swara	III.	Pramana
D.	Scale	IV.	Ahata

Choose the correct answer from the options given below:

1. A-I, B-II, C-III, D-IV
2. A-II, B-III, C-IV, D-I
3. A-III, B-IV, C-I, D-II
4. A-IV, B-III, C-II, D-I

**Options :**

485584134629. 1  
485584134630. 2  
485584134631. 3  
485584134632. 4

**Question Number : 293 Question Id : 48558433658 Question Type : MCQ Option Shuffling : No Is Question Mandatory : No Calculator : None Response Time : N.A Think Time : N.A Minimum Instruction Time : 0**

**Correct Marks : 5 Wrong Marks : 1**

**Question Key Details :**

Key	Value
Comprehension	MCQ1

അനുയോജ്യമായവ ചേർത്തെഴുതുക

LIST I		LIST II	
A.	നാദ	I.	അവരോഹ
B.	ശ്രുതി	II.	വിവാദി
C.	സ്വര	III.	പ്രമാണ
D.	സ്കെയിൽ	IV.	അഹത

താഴെ തന്നിരിക്കുന്നതിൽ നിന്നും ശരിയായ ഉത്തരം തിരഞ്ഞെടുക്കുക:

1. A-I, B-II, C-III, D-IV
2. A-II, B-III, C-IV, D-I
3. A-III, B-IV, C-I, D-II
4. A-IV, B-III, C-II, D-I

**Options :**

485584134629. 1  
485584134630. 2  
485584134631. 3  
485584134632. 4

**Question Number : 294 Question Id : 48558433659 Question Type : MCQ Option Shuffling : No Is Question Mandatory : No Calculator : None Response Time : N.A Think Time : N.A Minimum Instruction Time : 0**

**Correct Marks : 5 Wrong Marks : 1**

**Question Key Details :**

Key	Value
Comprehension	MCQ1

Arrange the Talas according to their ascending order of Matras:

- A. Ektala
- B. Keharwa
- C. Dadra
- D. Jhaptala
- E. Teentala

Choose the correct answer from the options given below:

- 1. A, B, C, D, E
- 2. A, C, B, D, E
- 3. C, B, D, A, E
- 4. C, B, A, D, E

**Options :**

- 485584134633. 1
- 485584134634. 2
- 485584134635. 3
- 485584134636. 4

**Question Number : 294 Question Id : 48558433659 Question Type : MCQ Option Shuffling : No Is Question Mandatory : No Calculator : None Response Time : N.A Think Time : N.A Minimum Instruction Time : 0**

**Correct Marks : 5 Wrong Marks : 1**

**Question Key Details :**

Key	Value
Comprehension	MCQ1

മാത്രയുടെ ആരോഹണക്രമം അനുസരിച്ച് താളങ്ങൾ ക്രമീകരിക്കുക:

- A. ഏക താളം
- B. കെഹർവ്വ
- C. ദ്വാദ്ര
- D. ജപതാളം
- E. തീൻത്താളം

താഴെ തന്നിരിക്കുന്നതിൽ നിന്നും ശരിയായ ഉത്തരം തിരഞ്ഞെടുക്കുക.

- 1. ഉത്തരം A, B, C, D, E
- 2. ഉത്തരം A, C, B, D, E
- 3. ഉത്തരം C, B, D, A, E
- 4. ഉത്തരം C, B, A, D, E

**Options :**

- 485584134633. 1
- 485584134634. 2
- 485584134635. 3
- 485584134636. 4

**Question Number : 295 Question Id : 48558433660 Question Type : MCQ Option Shuffling : No Is Question Mandatory : No Calculator : None Response Time : N.A Think Time : N.A Minimum Instruction Time : 0 Correct Marks : 5 Wrong Marks : 1**

**Question Key Details :**

Key	Value
Comprehension	MCQ1

Arrange the swaras of Raga Bhupali / Mohanam according to its Avaroha:

- A. Pa
- B. Re
- C. Ga
- D. Dha
- E. Sa

Choose the correct answer from the options given below:

- 1. A, B, C, E, D
- 2. D, A, C, B, E
- 3. E, B, C, A, D
- 4. E, D, A, C, B

**Options :**

- 485584134637. 1
- 485584134638. 2
- 485584134639. 3
- 485584134640. 4

Question Number : 295 Question Id : 48558433660 Question Type : MCQ Option Shuffling : No Is Question Mandatory : No Calculator : None Response Time : N.A Think Time : N.A Minimum Instruction Time : 0  
 Correct Marks : 5 Wrong Marks : 1  
 Question Key Details :

Key	Value
Comprehension	MCQ1

ഭൂപാളി / മോഹന രാഗത്തിന്റെ സ്വരങ്ങൾ അതിന്റെ അവരോഹണ ക്രമപ്രകാരം ക്രമീകരിക്കുക:

- A. പാ
- B. രീ
- C. ഗാ
- D. ധ
- E. സ

ചുവടെ തന്നിരിക്കുന്നതിൽ നിന്നും ശരിയായ ഉത്തരം തിരഞ്ഞെടുക്കുക:

1. ഉത്തരം A, B, C, E, D
2. ഉത്തരം D, A, C, B, E
3. ഉത്തരം E, B, C, A, D
4. ഉത്തരം E, D, A, C, B

**Options :**

- 485584134637. 1
- 485584134638. 2
- 485584134639. 3
- 485584134640. 4

### Dance

Section Id :	485584864
Section Number :	3
Section type :	Online
Mandatory or Optional :	Optional
Number of Questions :	25
Number of Questions to be attempted :	20
Section Marks :	100
Enable Mark as Answered Mark for Review and Clear Response :	Yes
Maximum Instruction Time :	0
Sub-Section Number :	1
Sub-Section Id :	4855842439
Question Shuffling Allowed :	Yes
Is Section Default? :	null

Question Number : 296 Question Id : 48558433661 Question Type : MCQ Option Shuffling : No Is Question Mandatory : No Calculator : None Response Time : N.A Think Time : N.A Minimum Instruction Time : 0  
 Correct Marks : 5 Wrong Marks : 1

**Question Key Details :**

Key	Value
Comprehension	MCQ2

"Uddipan" and "Aalamban" are the types of -

1. Vibhav
2. Anubhav
3. Aangik
4. Vachik

**Options :**

485584134641. 1  
485584134642. 2  
485584134643. 3  
485584134644. 4

**Question Number : 296 Question Id : 48558433661 Question Type : MCQ Option Shuffling : No Is Question Mandatory : No Calculator : None Response Time : N.A Think Time : N.A Minimum Instruction Time : 0**

**Correct Marks : 5 Wrong Marks : 1**

**Question Key Details :**

Key	Value
Comprehension	MCQ2

ഉദ്ദീപനവും ആലംബനവും താഴെ പറയുന്നവയുടെ ഭാഗമാണ് -

1. വൈഭവ്
2. അനുഭവ്
3. ആംഗിക്
4. വാചിക്

**Options :**

485584134641. 1  
485584134642. 2  
485584134643. 3  
485584134644. 4

**Question Number : 297 Question Id : 48558433662 Question Type : MCQ Option Shuffling : No Is Question Mandatory : No Calculator : None Response Time : N.A Think Time : N.A Minimum Instruction Time : 0**

**Correct Marks : 5 Wrong Marks : 1**

**Question Key Details :**

Key	Value
Comprehension	MCQ2

What is the make-up artist's process called who applies cutti or chutti on actor-dancer's face in Kathakali?

1. Kattalan
2. Pitham
3. Chuttikaran
4. Talavattam

**Options :**

- 485584134645. 1
- 485584134646. 2
- 485584134647. 3
- 485584134648. 4

**Question Number : 297 Question Id : 48558433662 Question Type : MCQ Option Shuffling : No Is Question Mandatory : No Calculator : None Response Time : N.A Think Time : N.A Minimum Instruction Time : 0**

**Correct Marks : 5 Wrong Marks : 1**

**Question Key Details :**

Key	Value
Comprehension	MCQ2

കഥകളിയിൽ നടന്റെ / നർകിയുടെ മുഖത്ത് ചുട്ടി പുരട്ടുന്ന മേക്കപ്പ് ആർട്ടിസ്റ്റിന്റെ പ്രക്രിയയെ എന്താണ് വിളിക്കുന്നത് ?

1. കട്ടാളൻ
2. പീതം
3. ചുട്ടിക്കാരൻ
4. താളവട്ടം

**Options :**

- 485584134645. 1
- 485584134646. 2
- 485584134647. 3
- 485584134648. 4

**Question Number : 298 Question Id : 48558433663 Question Type : MCQ Option Shuffling : No Is Question Mandatory : No Calculator : None Response Time : N.A Think Time : N.A Minimum Instruction Time : 0**

**Correct Marks : 5 Wrong Marks : 1**

**Question Key Details :**

Key	Value
Comprehension	MCQ2

"Abhinaya Chandrika" text is followed by -

1. Manipuri dancers
2. Odissi dancers
3. Kathakali dancers
4. Kathak dancers

**Options :**

- 485584134649. 1
- 485584134650. 2
- 485584134651. 3
- 485584134652. 4

**Question Number : 298 Question Id : 48558433663 Question Type : MCQ Option Shuffling : No Is Question Mandatory : No Calculator : None Response Time : N.A Think Time : N.A Minimum Instruction Time : 0**

**Correct Marks : 5 Wrong Marks : 1**

**Question Key Details :**

Key	Value
Comprehension	MCQ2

"അഭിനയ ചന്ദ്രിക" പദവാചകം പിന്തുടരുന്നത് -

1. മണിപ്പൂരി നർത്തകർ
2. ഒഡീസി നർത്തകർ
3. കഥകളി നർത്തകർ
4. കഥക് നർത്തകർ

**Options :**

- 485584134649. 1
- 485584134650. 2
- 485584134651. 3
- 485584134652. 4

**Question Number : 299 Question Id : 48558433664 Question Type : MCQ Option Shuffling : No Is Question Mandatory : No Calculator : None Response Time : N.A Think Time : N.A Minimum Instruction Time : 0**

**Correct Marks : 5 Wrong Marks : 1**

**Question Key Details :**

Key	Value
Comprehension	MCQ2

Which among the following is the famous 'couple dancer' of Kuchipudi dance style?

1. Singhajeet Singh and Charu Singh
2. Maulik Shah and Ishira Parekh
3. Raja and Radha Reddy
4. V. P. Dhananjayan and Shanta Dhananjayan

**Options :**

485584134653. 1  
485584134654. 2  
485584134655. 3  
485584134656. 4

**Question Number : 299 Question Id : 48558433664 Question Type : MCQ Option Shuffling : No Is Question Mandatory : No Calculator : None Response Time : N.A Think Time : N.A Minimum Instruction Time : 0**

**Correct Marks : 5 Wrong Marks : 1**

**Question Key Details :**

Key	Value
Comprehension	MCQ2

ചുവടെ ചേർത്തിരിക്കുന്നതിൽ കുച്ചിപ്പുടി നൃത്ത ശൈലിയിലെ 'പ്രശസ്തരായ ദമ്പതികൾ' ആരാണ് ?

1. സിൻഹജീത്ത് സിൻഹും ചാരു സിൻഹും
2. മൗലിക് ഷായും ഇഷിരാ പരേഖും
3. രാജയും രാധാ റെഡ്ഡിയും
4. വി.പി. ധനഞ്ജയനും ശാന്താ ധനഞ്ജയനും

**Options :**

485584134653. 1  
485584134654. 2  
485584134655. 3  
485584134656. 4

**Question Number : 300 Question Id : 48558433665 Question Type : MCQ Option Shuffling : No Is Question Mandatory : No Calculator : None Response Time : N.A Think Time : N.A Minimum Instruction Time : 0**

**Correct Marks : 5 Wrong Marks : 1**

**Question Key Details :**

Key	Value
Comprehension	MCQ2



Who is a Sattriya exponent among the following?

1. Jatin Goswami
2. V. P. Dhananjaya
3. Charan Girdhar Chand
4. Shashdhar Acharya

**Options :**

485584134657. 1  
485584134658. 2  
485584134659. 3  
485584134660. 4

**Question Number : 300 Question Id : 48558433665 Question Type : MCQ Option Shuffling : No Is Question Mandatory : No Calculator : None Response Time : N.A Think Time : N.A Minimum Instruction Time : 0**

**Correct Marks : 5 Wrong Marks : 1**

**Question Key Details :**

Key	Value
Comprehension	MCQ2

താഴെ പറയുന്നവയിൽ സാത്രിയ വ്യാഖ്യാതാവ് ആരാണ്?

1. ജതിൻ ഗോസ്വാമി
2. വി.പി. ധനഞ്ജയൻ
3. ചരൻ ഗിർദ്ദാർ ചാൻ
4. ഷാഷ്ദാർ ആചാര്യ

**Options :**

485584134657. 1  
485584134658. 2  
485584134659. 3  
485584134660. 4

**Question Number : 301 Question Id : 48558433666 Question Type : MCQ Option Shuffling : No Is Question Mandatory : No Calculator : None Response Time : N.A Think Time : N.A Minimum Instruction Time : 0**

**Correct Marks : 5 Wrong Marks : 1**

**Question Key Details :**

Key	Value
Comprehension	MCQ2

What are head movements called in Abhinayadarpanam?

1. Shirobheda
2. Padabheda
3. Hastabheda
4. Drishtibheda

**Options :**

485584134661. 1  
485584134662. 2  
485584134663. 3  
485584134664. 4

**Question Number : 301 Question Id : 48558433666 Question Type : MCQ Option Shuffling : No Is Question Mandatory : No Calculator : None Response Time : N.A Think Time : N.A Minimum Instruction Time : 0**

**Correct Marks : 5 Wrong Marks : 1**

**Question Key Details :**

Key	Value
Comprehension	MCQ2

അഭിനയദർപ്പണത്തിൽ ശിരോ ചലനങ്ങളെ എന്താണ് വിളിക്കുന്നത്?

1. ശിരോ ഭേദ
2. പാദ ഭേദ
3. ഹസ്ത ഭേദ
4. ദൃഷ്ടി ഭേദ

**Options :**

485584134661. 1  
485584134662. 2  
485584134663. 3  
485584134664. 4

**Question Number : 302 Question Id : 48558433667 Question Type : MCQ Option Shuffling : No Is Question Mandatory : No Calculator : None Response Time : N.A Think Time : N.A Minimum Instruction Time : 0**

**Correct Marks : 5 Wrong Marks : 1**

**Question Key Details :**

Key	Value
Comprehension	MCQ2

Which is the oldest university with Dance and Music Departments in Gujarat?

1. Benaras Hindu University
2. Rabindra Bharati University
3. The Maharaja Sayajirao university
4. Raja Mansingh Tomar University

**Options :**

485584134665. 1  
485584134666. 2  
485584134667. 3  
485584134668. 4

**Question Number : 302 Question Id : 48558433667 Question Type : MCQ Option Shuffling : No Is Question Mandatory : No Calculator : None Response Time : N.A Think Time : N.A Minimum Instruction Time : 0**

**Correct Marks : 5 Wrong Marks : 1**

**Question Key Details :**

Key	Value
Comprehension	MCQ2

ഗുജറാത്തിലെ നൂത്ത - സംഗീത വിഭാഗങ്ങളുള്ള ഏറ്റവും പഴയ സർവകലാശാല ഏത്?

1. ബനാറസ് ഹിന്ദു യൂണിവേഴ്സിറ്റി
2. രവീന്ദ്ര ഭാരതി യൂണിവേഴ്സിറ്റി
3. മഹാരാജാ സയജിരാവോ യൂണിവേഴ്സിറ്റി
4. രാജാ മഹാൻസിൻഹ തോമാർ യൂണിവേഴ്സിറ്റി

**Options :**

485584134665. 1  
485584134666. 2  
485584134667. 3  
485584134668. 4

**Question Number : 303 Question Id : 48558433668 Question Type : MCQ Option Shuffling : No Is Question Mandatory : No Calculator : None Response Time : N.A Think Time : N.A Minimum Instruction Time : 0**

**Correct Marks : 5 Wrong Marks : 1**

**Question Key Details :**

Key	Value
Comprehension	MCQ2

"Gat" and "Gat Bhaav" are the items of which classical dance form?

1. Kathakali
2. Sattriya
3. Kathak
4. Bharatanatyam

**Options :**

485584134669. 1  
485584134670. 2  
485584134671. 3  
485584134672. 4

**Question Number : 303 Question Id : 48558433668 Question Type : MCQ Option Shuffling : No Is Question Mandatory : No Calculator : None Response Time : N.A Think Time : N.A Minimum Instruction Time : 0**

**Correct Marks : 5 Wrong Marks : 1**

**Question Key Details :**

Key	Value
Comprehension	MCQ2

"ഗാത്", "ഗാത് ഭവ്" എന്നിവ ഏത് ക്ലാസിക്കൽ നൃത്തരൂപത്തിന്റെ ഇനങ്ങളാണ് ?

1. കഥകളി
2. സാത്രിയ
3. കഥക്
4. ഭരതനാട്യം

**Options :**

485584134669. 1  
485584134670. 2  
485584134671. 3  
485584134672. 4

**Question Number : 304 Question Id : 48558433669 Question Type : MCQ Option Shuffling : No Is Question Mandatory : No Calculator : None Response Time : N.A Think Time : N.A Minimum Instruction Time : 0**

**Correct Marks : 5 Wrong Marks : 1**

**Question Key Details :**

Key	Value
Comprehension	MCQ2

What is head gear called in Kathakali aharya?

1. Kalari
2. Sopanam
3. Kiritam
4. Vesham

**Options :**

485584134673. 1  
485584134674. 2  
485584134675. 3  
485584134676. 4

**Question Number : 304 Question Id : 48558433669 Question Type : MCQ Option Shuffling : No Is Question Mandatory : No Calculator : None Response Time : N.A Think Time : N.A Minimum Instruction Time : 0**

**Correct Marks : 5 Wrong Marks : 1**

**Question Key Details :**

Key	Value
Comprehension	MCQ2

കഥകളി ആചാര്യയിൽ തലപ്പാവ് എപ്രകാരമാണ് അറിയപ്പെടുന്നത്?

1. കളരി
2. സോപാനം
3. കിരീടം
4. വേഷം

**Options :**

485584134673. 1  
485584134674. 2  
485584134675. 3  
485584134676. 4

**Question Number : 305 Question Id : 48558433670 Question Type : MCQ Option Shuffling : No Is Question Mandatory : No Calculator : None Response Time : N.A Think Time : N.A Minimum Instruction Time : 0**

**Correct Marks : 5 Wrong Marks : 1**

**Question Key Details :**

Key	Value
Comprehension	MCQ2

'Geetam Vadyam tatha Nrityam tryam \_\_\_\_\_ muchyate' indicates:

1. Tandava
2. Nritta
3. Lasya
4. Sangeet

**Options :**

- 485584134677. 1
- 485584134678. 2
- 485584134679. 3
- 485584134680. 4

**Question Number : 305 Question Id : 48558433670 Question Type : MCQ Option Shuffling : No Is Question Mandatory : No Calculator : None Response Time : N.A Think Time : N.A Minimum Instruction Time : 0**

**Correct Marks : 5 Wrong Marks : 1**

**Question Key Details :**

Key	Value
Comprehension	MCQ2

'ശീതം വാദ്യം തഥാ നൃത്യം ത്രയം \_\_\_\_\_ മുച്യതേ'

1. താണ്ഡവ
2. നൃത്ത
3. ലാസ്യ
4. സംഗീത്

**Options :**

- 485584134677. 1
- 485584134678. 2
- 485584134679. 3
- 485584134680. 4

**Question Number : 306 Question Id : 48558433671 Question Type : MCQ Option Shuffling : No Is Question Mandatory : No Calculator : None Response Time : N.A Think Time : N.A Minimum Instruction Time : 0**

**Correct Marks : 5 Wrong Marks : 1**

**Question Key Details :**

Key	Value
Comprehension	MCQ2

What is the stylised representation called according to Natyashastra?

1. Bharati
2. Kaishiki
3. Vrittis
4. Natyadharmi

**Options :**

485584134681. 1  
485584134682. 2  
485584134683. 3  
485584134684. 4

**Question Number : 306 Question Id : 48558433671 Question Type : MCQ Option Shuffling : No Is Question Mandatory : No Calculator : None Response Time : N.A Think Time : N.A Minimum Instruction Time : 0**

**Correct Marks : 5 Wrong Marks : 1**

**Question Key Details :**

Key	Value
Comprehension	MCQ2

നാട്യ ശാസ്ത്രപ്രകാരം ശൈലിയിലുള്ള പ്രാധിനിത്യത്തെ എപ്രകാരമാണ് വിളിക്കുന്നത്?

1. ഭാരതി
2. കൈഷികി
3. വൃത്തിസ്
4. നാട്യധർമ്മി

**Options :**

485584134681. 1  
485584134682. 2  
485584134683. 3  
485584134684. 4

**Question Number : 307 Question Id : 48558433672 Question Type : MCQ Option Shuffling : No Is Question Mandatory : No Calculator : None Response Time : N.A Think Time : N.A Minimum Instruction Time : 0**

**Correct Marks : 5 Wrong Marks : 1**

**Question Key Details :**

Key	Value
Comprehension	MCQ2

Chandra-Surya-Rakudi are worn by the dancer of :

1. Kathak
2. Bharatanatyam
3. Manipuri
4. Odissi

**Options :**

485584134685. 1  
485584134686. 2  
485584134687. 3  
485584134688. 4

**Question Number : 307 Question Id : 48558433672 Question Type : MCQ Option Shuffling : No Is Question Mandatory : No Calculator : None Response Time : N.A Think Time : N.A Minimum Instruction Time : 0**

**Correct Marks : 5 Wrong Marks : 1**

**Question Key Details :**

Key	Value
Comprehension	MCQ2

'ചന്ദ്ര - സൂര്യ - രാകുടി' നേടിയ നൃത്തം :

1. കഥക്
2. ഭരതനാട്യം
3. മണിപ്പൂരി
4. ഒഡീസി

**Options :**

485584134685. 1  
485584134686. 2  
485584134687. 3  
485584134688. 4

**Question Number : 308 Question Id : 48558433673 Question Type : MCQ Option Shuffling : No Is Question Mandatory : No Calculator : None Response Time : N.A Think Time : N.A Minimum Instruction Time : 0**

**Correct Marks : 5 Wrong Marks : 1**

**Question Key Details :**

Key	Value
Comprehension	MCQ2



Which abhinaya comprises rendering of text and lyrics according to Bharata?

1. Vachika
2. Angika
3. Aharya
4. Satvika

**Options :**

485584134689. 1  
485584134690. 2  
485584134691. 3  
485584134692. 4

**Question Number : 308 Question Id : 48558433673 Question Type : MCQ Option Shuffling : No Is Question Mandatory : No Calculator : None Response Time : N.A Think Time : N.A Minimum Instruction Time : 0**

**Correct Marks : 5 Wrong Marks : 1**

**Question Key Details :**

Key	Value
Comprehension	MCQ2

'ഭരത' മനുസരിച്ചുള്ള വാചകങ്ങളും വാചകങ്ങളും വരികളും ഉൾക്കൊള്ളുന്ന അഭിനയം?

1. വാചിക
2. ആംഗിക
3. ആഹാര്യ
4. സ്വാതിക്

**Options :**

485584134689. 1  
485584134690. 2  
485584134691. 3  
485584134692. 4

**Question Number : 309 Question Id : 48558433674 Question Type : MCQ Option Shuffling : No Is Question Mandatory : No Calculator : None Response Time : N.A Think Time : N.A Minimum Instruction Time : 0**

**Correct Marks : 5 Wrong Marks : 1**

**Question Key Details :**

Key	Value
Comprehension	MCQ2

In which dance, performers perform the compositions of Mahant Shankar Dev?

1. Mohiniattam
2. Kathak
3. Sattriya
4. Kuchipudi

**Options :**

485584134693. 1  
485584134694. 2  
485584134695. 3  
485584134696. 4

**Question Number : 309 Question Id : 48558433674 Question Type : MCQ Option Shuffling : No Is Question Mandatory : No Calculator : None Response Time : N.A Think Time : N.A Minimum Instruction Time : 0**

**Correct Marks : 5 Wrong Marks : 1**

**Question Key Details :**

Key	Value
Comprehension	MCQ2

ഹെന്ത് ശങ്കർ ദേവിന്റെ രചനകൾ ഏത് നൃത്തത്തിലാണ് കലാകാരന്മാർ അവതരിപ്പിക്കുന്നത്?

1. മോഹിനിയാട്ടം
2. കഥക്
3. സാത്രിയ
4. കുച്ചിപ്പുടി

**Options :**

485584134693. 1  
485584134694. 2  
485584134695. 3  
485584134696. 4

**Question Number : 310 Question Id : 48558433675 Question Type : MCQ Option Shuffling : No Is Question Mandatory : No Calculator : None Response Time : N.A Think Time : N.A Minimum Instruction Time : 0**

**Correct Marks : 5 Wrong Marks : 1**

**Question Key Details :**

Key	Value
Comprehension	MCQ2

What is the earthen pot musical instrument called?

1. Ghatam
2. Morsing
3. Nattuva talam
4. Gajje

**Options :**

485584134697. 1  
485584134698. 2  
485584134699. 3  
485584134700. 4

**Question Number : 310 Question Id : 48558433675 Question Type : MCQ Option Shuffling : No Is Question Mandatory : No Calculator : None Response Time : N.A Think Time : N.A Minimum Instruction Time : 0**

**Correct Marks : 5 Wrong Marks : 1**

**Question Key Details :**

Key	Value
Comprehension	MCQ2

'മൺപാത്ര' സംഗീതോപകരണം അറിയപ്പെടുന്നത് ?

1. ഘടം
2. മോർസിംഗ്
3. നാട്ടുവ താളം
4. ഗജ്ജ

**Options :**

485584134697. 1  
485584134698. 2  
485584134699. 3  
485584134700. 4

**Question Number : 311 Question Id : 48558433676 Question Type : MCQ Option Shuffling : No Is Question Mandatory : No Calculator : None Response Time : N.A Think Time : N.A Minimum Instruction Time : 0**

**Correct Marks : 5 Wrong Marks : 1**

**Question Key Details :**

Key	Value
Comprehension	MCQ2

Percussion instruments used in classical dances:

- A. Dholak
- B. Tabla
- C. Mridangam
- D. Dholaki
- E. Khol

Choose the answer from the options given below:

- 1. A, C, D only
- 2. A, B, C only
- 3. A, D, E only
- 4. B, C, E only

**Options :**

- 485584134701. 1
- 485584134702. 2
- 485584134703. 3
- 485584134704. 4

**Question Number : 311 Question Id : 48558433676 Question Type : MCQ Option Shuffling : No Is Question Mandatory : No Calculator : None Response Time : N.A Think Time : N.A Minimum Instruction Time : 0**

**Correct Marks : 5 Wrong Marks : 1**

**Question Key Details :**

Key	Value
Comprehension	MCQ2

ക്ലാസിക്കൽ നൃത്തങ്ങളിൽ ഉപയോഗിക്കുന്ന താളവാദ്യം:

- A. ധോലക്
- B. തബല
- C. മൃദംഗം
- D. ധോലകി
- E. ഖോൾ

ചുവടെ ചേർത്തിരിക്കുന്നതിൽ നിന്നും ശരിയായ ഉത്തരം തിരഞ്ഞെടുക്കുക:

- 1. A, C, D മാത്രം ശരിയാണ്
- 2. A, B, C മാത്രം ശരിയാണ്
- 3. A, D, E മാത്രം ശരിയാണ്
- 4. B, C, E മാത്രം ശരിയാണ്

**Options :**

- 485584134701. 1
- 485584134702. 2
- 485584134703. 3
- 485584134704. 4

**Question Number : 312 Question Id : 48558433677 Question Type : MCQ Option Shuffling : No Is Question Mandatory : No Calculator : None Response Time : N.A Think Time : N.A Minimum Instruction Time : 0**

**Correct Marks : 5 Wrong Marks : 1**

**Question Key Details :**

Key	Value
Comprehension	MCQ2

Lasya dance is characterised as:

- A. Forceful
- B. Delicate
- C. Graceful
- D. Gentle
- E. Bold

Choose the correct answer from the options given below:

- 1. A, C, E only
- 2. B, C, D only
- 3. B, D, E only
- 4. A, B, D only

**Options :**

- 485584134705. 1
- 485584134706. 2
- 485584134707. 3
- 485584134708. 4

**Question Number : 312 Question Id : 48558433677 Question Type : MCQ Option Shuffling : No Is Question Mandatory : No Calculator : None Response Time : N.A Think Time : N.A Minimum Instruction Time : 0**

**Correct Marks : 5 Wrong Marks : 1**

**Question Key Details :**

Key	Value
Comprehension	MCQ2

ലാസ്യ നൃത്തത്തിന്റെ സവിശേഷത:

- A. ബലപ്രയോഗം
- B. അതിലോലം
- C. ഭംഗിയുള്ളതാണ്
- D. സൗമ്യമാണ്
- E. സ്വച്ഛം

താഴെ തന്നിരിക്കുന്നതിൽ നിന്നും ശരിയായ ഉത്തരം തിരഞ്ഞെടുക്കുക:

- 1. A, C, E മാത്രം ശരിയാണ്
- 2. B, C, D മാത്രം ശരിയാണ്
- 3. B, D, E മാത്രം ശരിയാണ്
- 4. A, B, D മാത്രം ശരിയാണ്

**Options :**

- 485584134705. 1
- 485584134706. 2
- 485584134707. 3
- 485584134708. 4

**Question Number : 313 Question Id : 48558433678 Question Type : MCQ Option Shuffling : No Is Question Mandatory : No Calculator : None Response Time : N.A Think Time : N.A Minimum Instruction Time : 0**

**Correct Marks : 5 Wrong Marks : 1**

**Question Key Details :**

Key	Value
Comprehension	MCQ2

Trace three "Sthayi Bhaav" from the following:

- A. Rati
- B. Nirveda
- C. Krodh
- D. Aalamban
- E. Uddipan

Choose the correct answer from the options given below:

- 1. A, D, E only
- 2. A, B, C only
- 3. C, D, E only
- 4. B, D, E only

**Options :**

- 485584134709. 1
- 485584134710. 2

485584134711. 3  
485584134712. 4

**Question Number : 313 Question Id : 48558433678 Question Type : MCQ Option Shuffling : No Is Question Mandatory : No Calculator : None Response Time : N.A Think Time : N.A Minimum Instruction Time : 0**

**Correct Marks : 5 Wrong Marks : 1**

**Question Key Details :**

Key	Value
Comprehension	MCQ2

താഴെ പറയുന്നവയിൽ നിന്നും മൂന്ന് "സ്ഥായി ഭാവങ്ങൾ" കണ്ടെത്തുക:

- A. രതി
- B. നിർവേദം
- C. ക്രോധം
- D. ആലംബം
- E. ഉദ്ദീപം

ചുവടെ ചേർത്തിരിക്കുന്നതിൽ നിന്നും ശരിയായ ഉത്തരം തിരഞ്ഞെടുക്കുക:

- 1. A, D, E മാത്രം ശരിയാണ്
- 2. A, B, C മാത്രം ശരിയാണ്
- 3. C, D, E മാത്രം ശരിയാണ്
- 4. B, D, E മാത്രം ശരിയാണ്

**Options :**

485584134709. 1  
485584134710. 2  
485584134711. 3  
485584134712. 4

**Question Number : 314 Question Id : 48558433679 Question Type : MCQ Option Shuffling : No Is Question Mandatory : No Calculator : None Response Time : N.A Think Time : N.A Minimum Instruction Time : 0**

**Correct Marks : 5 Wrong Marks : 1**

**Question Key Details :**

Key	Value
Comprehension	MCQ2

Choose rasas from the following:

- A. Tandava
- B. Hasya
- C. Beebhatsa
- D. Lasya
- E. Bhayanaka

Choose the correct answer from the options given below:

- 1. A, C, E only
- 2. B, D, E only
- 3. A, C, D only
- 4. B, C, E only

**Options :**

- 485584134713. 1
- 485584134714. 2
- 485584134715. 3
- 485584134716. 4

**Question Number : 314 Question Id : 48558433679 Question Type : MCQ Option Shuffling : No Is Question Mandatory : No Calculator : None Response Time : N.A Think Time : N.A Minimum Instruction Time : 0**

**Correct Marks : 5 Wrong Marks : 1**

**Question Key Details :**

Key	Value
Comprehension	MCQ2

താഴെ പറയുന്നവയിൽ നിന്നും 'രസ'ങ്ങൾ തിരഞ്ഞെടുക്കുക:

- A. താണ്ഡവം
- B. ഹാസ്യം
- C. ബീഭത്സം
- D. ലാസ്യം
- E. ഭയാനകം

ചുവടെ ചേർത്തിരിക്കുന്നവയിൽ നിന്നും ശരിയായ ഉത്തരം തിരഞ്ഞെടുക്കുക:

- 1. A, C, E മാത്രം ശരിയാണ്
- 2. B, D, E മാത്രം ശരിയാണ്
- 3. A, C, D മാത്രം ശരിയാണ്
- 4. B, C, E മാത്രം ശരിയാണ്

**Options :**

- 485584134713. 1
- 485584134714. 2
- 485584134715. 3
- 485584134716. 4



**Question Number : 315 Question Id : 48558433680 Question Type : MCQ Option Shuffling : No Is Question Mandatory : No Calculator : None Response Time : N.A Think Time : N.A Minimum Instruction Time : 0**

**Correct Marks : 5 Wrong Marks : 1**

**Question Key Details :**

Key	Value
Comprehension	MCQ2

Which two are not "Rasa" from among the following?

- A. Aashcharya
- B. Adbhut
- C. Nirveda
- D. Karuna
- E. Roudra

Choose the correct answer from the options given below:

- 1. A and C only
- 2. A and D only
- 3. B and D only
- 4. A and E only

**Options :**

- 485584134717. 1
- 485584134718. 2
- 485584134719. 3
- 485584134720. 4

**Question Number : 315 Question Id : 48558433680 Question Type : MCQ Option Shuffling : No Is Question Mandatory : No Calculator : None Response Time : N.A Think Time : N.A Minimum Instruction Time : 0**

**Correct Marks : 5 Wrong Marks : 1**

**Question Key Details :**

Key	Value
Comprehension	MCQ2

ചുവടെ ചേർത്തവയിൽ നിന്നും "രസ" മല്ലാത്ത രണ്ട് ഭാവങ്ങൾ കണ്ടെത്തുക?

- A. ആശ്ചര്യ
- B. അത്ഭുതം
- C. നിർവേദം
- D. കരുണം
- E. റെഘഭവം

ചുവടെ തന്നിരിക്കുന്നതിൽ നിന്നും ശരിയായ ഉത്തരം തിരഞ്ഞെടുക്കുക:

- 1. ഉത്തരം A ഉം C ഉം മാത്രം ശരിയാണ്
- 2. ഉത്തരം A ഉം D ഉം മാത്രം ശരിയാണ്
- 3. ഉത്തരം B ഉം D ഉം മാത്രം ശരിയാണ്
- 4. ഉത്തരം A ഉം E ഉം മാത്രം ശരിയാണ്

**Options :**

- 485584134717. 1
- 485584134718. 2
- 485584134719. 3
- 485584134720. 4

**Question Number : 316 Question Id : 48558433681 Question Type : MCQ Option Shuffling : No Is Question Mandatory : No Calculator : None Response Time : N.A Think Time : N.A Minimum Instruction Time : 0**

**Correct Marks : 5 Wrong Marks : 1**

**Question Key Details :**

Key	Value
Comprehension	MCQ2

Match List I with List II

LIST I		LIST II	
A.	Haas	I.	Veer
B.	Utsah	II.	Hasya
C.	Rati	III.	Karun
D.	Shoka	IV.	Shringar

Choose the correct answer from the options given below:

- 1. A-I, B-II, C-III, D-IV
- 2. A-II, B-III, C-I, D-IV
- 3. A-II, B-I, C-IV, D-III
- 4. A-IV, B-III, C-II, D-I

**Options :**

- 485584134721. 1
- 485584134722. 2
- 485584134723. 3
- 485584134724. 4

Question Number : 316 Question Id : 48558433681 Question Type : MCQ Option Shuffling : No Is Question Mandatory : No Calculator : None Response Time : N.A Think Time : N.A Minimum Instruction Time : 0  
 Correct Marks : 5 Wrong Marks : 1  
 Question Key Details :

Key	Value
Comprehension	MCQ2

അനുയോജ്യമായത് ചേർത്തെഴുതുക

LIST I		LIST II	
A.	ഹാസ്യം	I.	വീര്യം
B.	ഉത്സാഹം	II.	ഹാസ്യം
C.	രതി	III.	കരുണം
D.	ശോകം	IV.	ശൃംഗാരം

ചുവടെ ചേർത്തിരിക്കുന്നതിൽ നിന്നും ശരിയായ ഉത്തരം തിരഞ്ഞെടുക്കുക:

1. A-I, B-II, C-III, D-IV
2. A-II, B-III, C-I, D-IV
3. A-II, B-I, C-IV, D-III
4. A-IV, B-III, C-II, D-I

Options :

- 485584134721. 1
- 485584134722. 2
- 485584134723. 3
- 485584134724. 4

Question Number : 317 Question Id : 48558433682 Question Type : MCQ Option Shuffling : No Is Question Mandatory : No Calculator : None Response Time : N.A Think Time : N.A Minimum Instruction Time : 0  
 Correct Marks : 5 Wrong Marks : 1  
 Question Key Details :

Key	Value
Comprehension	MCQ2

Match List I with List II

LIST I		LIST II	
A.	Alarippu	I.	Kathak
B.	Pallavi	II.	Odissi
C.	Jiva	III.	Bharatanatyam
D.	Tarana	IV.	Mohiniattam

Choose the correct answer from the options given below:

1. A-III, B-II, C-IV, D-I
2. A-II, B-I, C-III, D-IV
3. A-IV, B-III, C-II, D-I
4. A-I, B-III, C-II, D-IV

**Options :**

485584134725. 1  
485584134726. 2  
485584134727. 3  
485584134728. 4

**Question Number : 317 Question Id : 48558433682 Question Type : MCQ Option Shuffling : No Is Question Mandatory : No Calculator : None Response Time : N.A Think Time : N.A Minimum Instruction Time : 0**

**Correct Marks : 5 Wrong Marks : 1**

**Question Key Details :**

Key	Value
Comprehension	MCQ2

അനുയോജ്യമായത് ചേർത്തെഴുതുക

LIST I		LIST II	
A.	അലരിപ്പ്	I.	കഥക്
B.	പല്ലവി	II.	ഒഡീസി
C.	ജീവ	III.	ഭരതനാട്യം
D.	താരണ	IV.	മോഹിനിയാട്ടം

ചുവടെ ചേർത്തിരിക്കുന്നതിൽ നിന്നും ശരിയായ ഉത്തരം തിരഞ്ഞെടുക്കുക:

1. A-III, B-II, C-IV, D-I
2. A-II, B-I, C-III, D-IV
3. A-IV, B-III, C-II, D-I
4. A-I, B-III, C-II, D-IV

**Options :**

485584134725. 1  
485584134726. 2  
485584134727. 3  
485584134728. 4

Question Number : 318 Question Id : 48558433683 Question Type : MCQ Option Shuffling : No Is Question Mandatory : No Calculator : None Response Time : N.A Think Time : N.A Minimum Instruction Time : 0

Correct Marks : 5 Wrong Marks : 1

Question Key Details :

Key	Value
Comprehension	MCQ2

Match List I with List II

LIST I		LIST II	
A.	Cause - Determinants	I.	Vyabhichari bhava
B.	Consequences-reactions	II.	Rasa
C.	Complementary expression	III.	Vibhava
D.	Sentiment	IV.	Anubhava

Choose the correct answer from the options given below:

1. A-II, B-I, C-III, D-IV
2. A-III, B-IV, C-I, D-II
3. A-IV, B-II, C-III, D-I
4. A-I, B-III, C-II, D-IV

Options :

- 485584134729. 1
- 485584134730. 2
- 485584134731. 3
- 485584134732. 4

Question Number : 318 Question Id : 48558433683 Question Type : MCQ Option Shuffling : No Is Question Mandatory : No Calculator : None Response Time : N.A Think Time : N.A Minimum Instruction Time : 0

Correct Marks : 5 Wrong Marks : 1

Question Key Details :

Key	Value
Comprehension	MCQ2

അനുയോജ്യമായത് ചേർത്തെഴുതുക

LIST I		LIST II	
A.	കാരണം - നിർണ്ണായകർ	I.	വ്യാഭിചാരി ഭാവം
B.	പരിണിത ഫലങ്ങൾ	II.	രസം
C.	പരിപൂർകമായ ആവിഷ്കരണം	III.	വൈഭവം
D.	വൈകാരിക ഭാവം	IV.	അനുഭവ

ചുവടെ ചേർത്തിരിക്കുന്നതിൽ നിന്നും ശരിയായ ഉത്തരം തിരഞ്ഞെടുക്കുക:

1. A-II, B-I, C-III, D-IV
2. A-III, B-IV, C-I, D-II
3. A-IV, B-II, C-III, D-I
4. A-I, B-III, C-II, D-IV

**Options :**

485584134729. 1  
 485584134730. 2  
 485584134731. 3  
 485584134732. 4

**Question Number : 319 Question Id : 48558433684 Question Type : MCQ Option Shuffling : No Is Question Mandatory : No Calculator : None Response Time : N.A Think Time : N.A Minimum Instruction Time : 0**

**Correct Marks : 5 Wrong Marks : 1**

**Question Key Details :**

Key	Value
Comprehension	MCQ2

Match List I with List II

LIST I		LIST II	
A.	Odiyanam	I.	ear ornament
B.	Chandra-Surya	II.	three round balls attached to hair
C.	Kunjalam	III.	head ornament
D.	Jhumiki	IV.	belt

Choose the correct answer from the options given below:

1. A-II, B-I, C-III, D-IV
2. A-III, B-IV, C-I, D-II
3. A-I, B-IV, C-III, D-II
4. A-IV, B-III, C-II, D-I

**Options :**

485584134733. 1  
 485584134734. 2  
 485584134735. 3  
 485584134736. 4

Question Number : 319 Question Id : 48558433684 Question Type : MCQ Option Shuffling : No Is Question Mandatory : No Calculator : None Response Time : N.A Think Time : N.A Minimum Instruction Time : 0  
 Correct Marks : 5 Wrong Marks : 1  
 Question Key Details :

Key	Value
Comprehension	MCQ2

അനുയോജ്യമായത് തിരഞ്ഞെടുക്കുക

LIST I		LIST II	
A.	ഒടിയനം	I.	കർണാഭരണം
B.	ചന്ദ്രനും - സൂര്യനും	II.	മുടിയിൽ ഘടിപ്പിച്ചിരിക്കുന്ന വൃത്താകൃതിയിലുള്ള മൂന്നു പന്തുകൾ
C.	കുഞ്ജലം	III.	ശിരസിൽ ചൂടുന്ന ആഭരണം
D.	ജുമുക്കി	IV.	അരപ്പട്ട

ചുവടെ ചേർത്തിരിക്കുന്നതിൽ നിന്നും ശരിയായ ഉത്തരം തിരഞ്ഞെടുക്കുക:

1. A-II, B-I, C-III, D-IV
2. A-III, B-IV, C-I, D-II
3. A-I, B-IV, C-III, D-II
4. A-IV, B-III, C-II, D-I

Options :

- 485584134733. 1
- 485584134734. 2
- 485584134735. 3
- 485584134736. 4

Question Number : 320 Question Id : 48558433685 Question Type : MCQ Option Shuffling : No Is Question Mandatory : No Calculator : None Response Time : N.A Think Time : N.A Minimum Instruction Time : 0  
 Correct Marks : 5 Wrong Marks : 1  
 Question Key Details :

Key	Value
Comprehension	MCQ2

Give the correct order of the following rasas according to Natyashastra:

- A. Raudra
- B. Hasya
- C. Veera
- D. Shringara
- E. Karuna

Choose the correct answer from the options given below:

- 1. B, A, E, D, C
- 2. D, C, A, E, B
- 3. A, C, E, B, D
- 4. D, B, E, A, C

**Options :**

- 485584134737. 1
- 485584134738. 2
- 485584134739. 3
- 485584134740. 4

**Question Number : 320 Question Id : 48558433685 Question Type : MCQ Option Shuffling : No Is Question Mandatory : No Calculator : None Response Time : N.A Think Time : N.A Minimum Instruction Time : 0**

**Correct Marks : 5 Wrong Marks : 1**

**Question Key Details :**

Key	Value
Comprehension	MCQ2

നാട്യശാസ്ത്രമനുസരിച്ച് താഴെ പറയുന്ന 'രസ'ങ്ങളുടെ ശരിയായ ക്രമം കണ്ടെത്തുക:

- A. റൌദ്രം
- B. ഹാസ്യം
- C. വീരം
- D. ശൃംഗാരം
- E. കരുണം

ചുവടെ തന്നിരിക്കുന്നതിൽ നിന്നും ശരിയായ ഉത്തരം തിരഞ്ഞെടുക്കുക:

- 1. B, A, E, D, C
- 2. D, C, A, E, B
- 3. A, C, E, B, D
- 4. D, B, E, A, C

**Options :**

- 485584134737. 1
- 485584134738. 2
- 485584134739. 3



## Percussion Music

<b>Section Id :</b>	485584865
<b>Section Number :</b>	4
<b>Section type :</b>	Online
<b>Mandatory or Optional :</b>	Optional
<b>Number of Questions :</b>	25
<b>Number of Questions to be attempted :</b>	20
<b>Section Marks :</b>	100
<b>Enable Mark as Answered Mark for Review and Clear Response :</b>	Yes
<b>Maximum Instruction Time :</b>	0
<b>Sub-Section Number :</b>	1
<b>Sub-Section Id :</b>	4855842440
<b>Question Shuffling Allowed :</b>	Yes
<b>Is Section Default? :</b>	null

**Question Number : 321 Question Id : 48558433686 Question Type : MCQ Option Shuffling : No Is Question Mandatory : No Calculator : None Response Time : N.A Think Time : N.A Minimum Instruction Time : 0**

**Correct Marks : 5 Wrong Marks : 1**

**Question Key Details :**

Key	Value
Comprehension	MCQ3

Zakir Hussain belongs to which of the following Tabla gharanas?

1. Punjab
2. Delhi
3. Ajrada
4. Lucknow

**Options :**

485584134741. 1  
 485584134742. 2  
 485584134743. 3  
 485584134744. 4

**Question Number : 321 Question Id : 48558433686 Question Type : MCQ Option Shuffling : No Is Question Mandatory : No Calculator : None Response Time : N.A Think Time : N.A Minimum Instruction Time : 0**

**Correct Marks : 5 Wrong Marks : 1**

**Question Key Details :**

Key	Value
Comprehension	MCQ3

താഴെ പറയുന്നതിൽ ഏത് തബല ഘരാനയിലാണ് സക്കീർ ഹുസൈൻ ഭാഗമാകുന്നത്?

1. പഞ്ചാബ്
2. ഡൽഹി
3. അജ്‌മീർ
4. ലക്നൗ

**Options :**

- 485584134741. 1
- 485584134742. 2
- 485584134743. 3
- 485584134744. 4

**Question Number : 322 Question Id : 48558433687 Question Type : MCQ Option Shuffling : No Is Question Mandatory : No Calculator : None Response Time : N.A Think Time : N.A Minimum Instruction Time : 0**

**Correct Marks : 5 Wrong Marks : 1**

**Question Key Details :**

Key	Value
Comprehension	MCQ3

Identify the Tala - Dha Ge Na Ti ....

1. Dadra
2. Rupak
3. Kaharwa
4. Sooltala

**Options :**

- 485584134745. 1
- 485584134746. 2
- 485584134747. 3
- 485584134748. 4

**Question Number : 322 Question Id : 48558433687 Question Type : MCQ Option Shuffling : No Is Question Mandatory : No Calculator : None Response Time : N.A Think Time : N.A Minimum Instruction Time : 0**

**Correct Marks : 5 Wrong Marks : 1**

**Question Key Details :**

Key	Value
Comprehension	MCQ3

'ധ ഗ ന തി' ഏത് താളമാണ്?

1. ദ്വദശ
2. രൂപകം
3. കഹരീവ
4. സുശർത്താല

**Options :**

485584134745. 1  
485584134746. 2  
485584134747. 3  
485584134748. 4

**Question Number : 323 Question Id : 48558433688 Question Type : MCQ Option Shuffling : No Is Question Mandatory : No Calculator : None Response Time : N.A Think Time : N.A Minimum Instruction Time : 0**

**Correct Marks : 5 Wrong Marks : 1**

**Question Key Details :**

Key	Value
Comprehension	MCQ3

In Natyashastra, which instruments (Vadya) are found similar to Pakhawaj?

1. Ankik
2. Urdhwak
3. Aalingya
4. Jodi

**Options :**

485584134749. 1  
485584134750. 2  
485584134751. 3  
485584134752. 4

**Question Number : 323 Question Id : 48558433688 Question Type : MCQ Option Shuffling : No Is Question Mandatory : No Calculator : None Response Time : N.A Think Time : N.A Minimum Instruction Time : 0**

**Correct Marks : 5 Wrong Marks : 1**

**Question Key Details :**

Key	Value
Comprehension	MCQ3

നാട്യശാസ്ത്രത്തിൽ, പഖ്യാജിന് സമാനമായ വാദ്യങ്ങൾ ഏതൊക്കെയാണ് ?

1. തൃജിക്
2. ഉര്യയാക്
3. തൃലിംഗ്യ
4. ജോഡി

**Options :**

- 485584134749. 1
- 485584134750. 2
- 485584134751. 3
- 485584134752. 4

**Question Number : 324 Question Id : 48558433689 Question Type : MCQ Option Shuffling : No Is Question Mandatory : No Calculator : None Response Time : N.A Think Time : N.A Minimum Instruction Time : 0**

**Correct Marks : 5 Wrong Marks : 1**

**Question Key Details :**

Key	Value
Comprehension	MCQ3

Jhump Tal accompanies which form of music?

1. Hindustani
2. Karnatak
3. Punjabi
4. Hariyanwi

**Options :**

- 485584134753. 1
- 485584134754. 2
- 485584134755. 3
- 485584134756. 4

**Question Number : 324 Question Id : 48558433689 Question Type : MCQ Option Shuffling : No Is Question Mandatory : No Calculator : None Response Time : N.A Think Time : N.A Minimum Instruction Time : 0**

**Correct Marks : 5 Wrong Marks : 1**

**Question Key Details :**

Key	Value
Comprehension	MCQ3

ജുംബ് താൽ ഏത് തരത്തിലുള്ള സംഗീതത്തോടൊപ്പമാണ് ചേർന്നുപോകുന്നത്?

1. ഹിന്ദുസ്ഥാനി
2. കർണാട്ടിക്
3. പഞ്ചാബി
4. ഹരിയാൻവി

**Options :**

485584134753. 1  
485584134754. 2  
485584134755. 3  
485584134756. 4

**Question Number : 325 Question Id : 48558433690 Question Type : MCQ Option Shuffling : No Is Question Mandatory : No Calculator : None Response Time : N.A Think Time : N.A Minimum Instruction Time : 0**

**Correct Marks : 5 Wrong Marks : 1**

**Question Key Details :**

Key	Value
Comprehension	MCQ3

Which Tala is accompanied with Dhrupad?

1. Teen Tala
2. Jhump Tala
3. Sooltala
4. Ektala

**Options :**

485584134757. 1  
485584134758. 2  
485584134759. 3  
485584134760. 4

**Question Number : 325 Question Id : 48558433690 Question Type : MCQ Option Shuffling : No Is Question Mandatory : No Calculator : None Response Time : N.A Think Time : N.A Minimum Instruction Time : 0**

**Correct Marks : 5 Wrong Marks : 1**

**Question Key Details :**

Key	Value
Comprehension	MCQ3

ദ്രൗപദിനൊപ്പം ചേർന്നുപോകുന്ന താളമേത്?

1. തീൻ താളം
2. ജുംബ് താളം
3. സുശ് താളം
4. ഏക താളം

**Options :**

- 485584134757. 1
- 485584134758. 2
- 485584134759. 3
- 485584134760. 4

**Question Number : 326 Question Id : 48558433691 Question Type : MCQ Option Shuffling : No Is Question Mandatory : No Calculator : None Response Time : N.A Think Time : N.A Minimum Instruction Time : 0**

**Correct Marks : 5 Wrong Marks : 1**

**Question Key Details :**

Key	Value
Comprehension	MCQ3

Which Tala is played with Bhajan?

1. Kaharwa
2. Rudra
3. Lilawati
4. Vishnu

**Options :**

- 485584134761. 1
- 485584134762. 2
- 485584134763. 3
- 485584134764. 4

**Question Number : 326 Question Id : 48558433691 Question Type : MCQ Option Shuffling : No Is Question Mandatory : No Calculator : None Response Time : N.A Think Time : N.A Minimum Instruction Time : 0**

**Correct Marks : 5 Wrong Marks : 1**

**Question Key Details :**

Key	Value
Comprehension	MCQ3

'ഭജന' യോടൊപ്പം വായിക്കുന്ന താളമേൽ?

1. കഹർവ
2. രുദ്ര
3. ലിലാവതി
4. വിഷ്ണു

**Options :**

- 485584134761. 1
- 485584134762. 2
- 485584134763. 3
- 485584134764. 4

**Question Number : 327 Question Id : 48558433692 Question Type : MCQ Option Shuffling : No Is Question Mandatory : No Calculator : None Response Time : N.A Think Time : N.A Minimum Instruction Time : 0**

**Correct Marks : 5 Wrong Marks : 1**

**Question Key Details :**

Key	Value
Comprehension	MCQ3

Who was the founder of Delhi Gharana?

1. Modu Khan
2. Kallu Khan
3. Siddhar Khan
4. Hasan Khan

**Options :**

- 485584134765. 1
- 485584134766. 2
- 485584134767. 3
- 485584134768. 4

**Question Number : 327 Question Id : 48558433692 Question Type : MCQ Option Shuffling : No Is Question Mandatory : No Calculator : None Response Time : N.A Think Time : N.A Minimum Instruction Time : 0**

**Correct Marks : 5 Wrong Marks : 1**

**Question Key Details :**

Key	Value
Comprehension	MCQ3

ഡൽഹി ഘരാനയുടെ സ്ഥാപകൻ ?

1. മോഡു ഖാൻ
2. കല്ലു ഖാൻ
3. സിദ്ധാർ ഖാൻ
4. ഹാസൻ ഖാൻ

**Options :**

485584134765. 1  
485584134766. 2  
485584134767. 3  
485584134768. 4

**Question Number : 328 Question Id : 48558433693 Question Type : MCQ Option Shuffling : No Is Question Mandatory : No Calculator : None Response Time : N.A Think Time : N.A Minimum Instruction Time : 0**

**Correct Marks : 5 Wrong Marks : 1**

**Question Key Details :**

Key	Value
Comprehension	MCQ3

Mridangam is made from the wood of :

1. Aam (Mango)
2. Shisham
3. Jamun
4. Kathal (Jackfruit)

**Options :**

485584134769. 1  
485584134770. 2  
485584134771. 3  
485584134772. 4

**Question Number : 328 Question Id : 48558433693 Question Type : MCQ Option Shuffling : No Is Question Mandatory : No Calculator : None Response Time : N.A Think Time : N.A Minimum Instruction Time : 0**

**Correct Marks : 5 Wrong Marks : 1**

**Question Key Details :**

Key	Value
Comprehension	MCQ3



മ്യൂസിക്കിനുപയോഗിക്കുന്ന മരമേൽ :

1. മാവ്
2. ശിഷിര
3. ജാമുൻ
4. കാരൽ/പ്ലാവ്

**Options :**

485584134769. 1  
485584134770. 2  
485584134771. 3  
485584134772. 4

**Question Number : 329 Question Id : 48558433694 Question Type : MCQ Option Shuffling : No Is Question Mandatory : No Calculator : None Response Time : N.A Think Time : N.A Minimum Instruction Time : 0**

**Correct Marks : 5 Wrong Marks : 1**

**Question Key Details :**

Key	Value
Comprehension	MCQ3

How many 'Gullis' are used in Pakhawaj?

1. 6
2. 8
3. 10
4. 12

**Options :**

485584134773. 1  
485584134774. 2  
485584134775. 3  
485584134776. 4

**Question Number : 329 Question Id : 48558433694 Question Type : MCQ Option Shuffling : No Is Question Mandatory : No Calculator : None Response Time : N.A Think Time : N.A Minimum Instruction Time : 0**

**Correct Marks : 5 Wrong Marks : 1**

**Question Key Details :**

Key	Value
Comprehension	MCQ3

'പഖ്യാജി' ൽ എത്ര 'ഗല്ലികൾ' ഉപയോഗിക്കുന്നു ?

1. 6
2. 8
3. 10
4. 12

**Options :**

485584134773. 1  
485584134774. 2  
485584134775. 3  
485584134776. 4

**Question Number : 330 Question Id : 48558433695 Question Type : MCQ Option Shuffling : No Is Question Mandatory : No Calculator : None Response Time : N.A Think Time : N.A Minimum Instruction Time : 0**

**Correct Marks : 5 Wrong Marks : 1**

**Question Key Details :**

Key	Value
Comprehension	MCQ3

Kudau Singh is related to which musical instrument (Vadya)?

1. Tabla
2. Pakhawaj
3. Mridangam
4. Punga

**Options :**

485584134777. 1  
485584134778. 2  
485584134779. 3  
485584134780. 4

**Question Number : 330 Question Id : 48558433695 Question Type : MCQ Option Shuffling : No Is Question Mandatory : No Calculator : None Response Time : N.A Think Time : N.A Minimum Instruction Time : 0**

**Correct Marks : 5 Wrong Marks : 1**

**Question Key Details :**

Key	Value
Comprehension	MCQ3

കുഡാവു സിംഗ് ഏത് സംഗീത ഉപകരണവുമായി(വാദ്യ) ബന്ധപ്പെട്ടിരിക്കുന്നു ?

- 1. തബല
- 2. പഖാവാജ്
- 3. മൃദംഗം
- 4. പുംഗ

**Options :**

- 485584134777. 1
- 485584134778. 2
- 485584134779. 3
- 485584134780. 4

**Question Number : 331 Question Id : 48558433696 Question Type : MCQ Option Shuffling : No Is Question Mandatory : No Calculator : None Response Time : N.A Think Time : N.A Minimum Instruction Time : 0**

**Correct Marks : 5 Wrong Marks : 1**

**Question Key Details :**

Key	Value
Comprehension	MCQ3

Kayada of Ada laya is famous in which Gharana?

- 1. Delhi
- 2. Punjab
- 3. Ajrada
- 4. Farukhabad

**Options :**

- 485584134781. 1
- 485584134782. 2
- 485584134783. 3
- 485584134784. 4

**Question Number : 331 Question Id : 48558433696 Question Type : MCQ Option Shuffling : No Is Question Mandatory : No Calculator : None Response Time : N.A Think Time : N.A Minimum Instruction Time : 0**

**Correct Marks : 5 Wrong Marks : 1**

**Question Key Details :**

Key	Value
Comprehension	MCQ3

അസ ലയയിലെ 'കയാദ' ഏത് ഘരാനയിലാണ് പ്രസിദ്ധമായത് ?

1. ഡൽഹി
2. പഞ്ചാബ്
3. അജാദ
4. ഫറൂഖ്‌വാബാദ്

**Options :**

485584134781. 1  
485584134782. 2  
485584134783. 3  
485584134784. 4

**Question Number : 332 Question Id : 48558433697 Question Type : MCQ Option Shuffling : No Is Question Mandatory : No Calculator : None Response Time : N.A Think Time : N.A Minimum Instruction Time : 0**

**Correct Marks : 5 Wrong Marks : 1**

**Question Key Details :**

Key	Value
Comprehension	MCQ3

'Dha' Varna is related to which instrument (Vadya)?

1. Sitar
2. Sarod
3. Pakhawaj
4. Violin

**Options :**

485584134785. 1  
485584134786. 2  
485584134787. 3  
485584134788. 4

**Question Number : 332 Question Id : 48558433697 Question Type : MCQ Option Shuffling : No Is Question Mandatory : No Calculator : None Response Time : N.A Think Time : N.A Minimum Instruction Time : 0**

**Correct Marks : 5 Wrong Marks : 1**

**Question Key Details :**

Key	Value
Comprehension	MCQ3

'ധാ' വർണ്ണം ഏത് വാദ്യ ഉപകരണവുമായി ബന്ധപ്പെട്ടിരിക്കുന്നു ?

1. സിത്താർ
2. സാരോദ്
3. പഖാവജ്
4. വയലിൻ

**Options :**

485584134785. 1  
485584134786. 2  
485584134787. 3  
485584134788. 4

**Question Number : 333 Question Id : 48558433698 Question Type : MCQ Option Shuffling : No Is Question Mandatory : No Calculator : None Response Time : N.A Think Time : N.A Minimum Instruction Time : 0**

**Correct Marks : 5 Wrong Marks : 1**

**Question Key Details :**

Key	Value
Comprehension	MCQ3

Ta, Deem, Dom, Nam varnas pertain to which instrument (Vadya)?

1. Pakhawaj
2. Tabla
3. Dholak
4. Mridangam

**Options :**

485584134789. 1  
485584134790. 2  
485584134791. 3  
485584134792. 4

**Question Number : 333 Question Id : 48558433698 Question Type : MCQ Option Shuffling : No Is Question Mandatory : No Calculator : None Response Time : N.A Think Time : N.A Minimum Instruction Time : 0**

**Correct Marks : 5 Wrong Marks : 1**

**Question Key Details :**

Key	Value
Comprehension	MCQ3

താ. തീം തോം, നാം വർണ്ണങ്ങൾ ഏത് വാദ്യ ഉപകരണവുമായി സംബന്ധിക്കുന്നു?

1. പഖാവജ്
2. തബല
3. ധോലക്
4. മൃദംഗം

**Options :**

485584134789. 1  
485584134790. 2  
485584134791. 3  
485584134792. 4

**Question Number : 334 Question Id : 48558433699 Question Type : MCQ Option Shuffling : No Is Question Mandatory : No Calculator : None Response Time : N.A Think Time : N.A Minimum Instruction Time : 0**

**Correct Marks : 5 Wrong Marks : 1**

**Question Key Details :**

Key	Value
Comprehension	MCQ3

'Pharan' is played on:

1. Khol
2. Tabla
3. Pakhawaj
4. Mridangam

**Options :**

485584134793. 1  
485584134794. 2  
485584134795. 3  
485584134796. 4

**Question Number : 334 Question Id : 48558433699 Question Type : MCQ Option Shuffling : No Is Question Mandatory : No Calculator : None Response Time : N.A Think Time : N.A Minimum Instruction Time : 0**

**Correct Marks : 5 Wrong Marks : 1**

**Question Key Details :**

Key	Value
Comprehension	MCQ3

പഹാരൻ വായിക്കുന്നത് :

1. ഓരൻ
2. തബല
3. പഖാവജ്
4. മൃദംഗം

**Options :**

485584134793. 1
485584134794. 2
485584134795. 3
485584134796. 4

**Question Number : 335 Question Id : 48558433700 Question Type : MCQ Option Shuffling : No Is Question Mandatory : No Calculator : None Response Time : N.A Think Time : N.A Minimum Instruction Time : 0**

**Correct Marks : 5 Wrong Marks : 1**

**Question Key Details :**

Key	Value
Comprehension	MCQ3

Matras are indicated by the sign -

1. X X X
2. # # #
3. 1 2 3
4. 1 1 1

**Options :**

485584134797. 1
485584134798. 2
485584134799. 3
485584134800. 4

**Question Number : 335 Question Id : 48558433700 Question Type : MCQ Option Shuffling : No Is Question Mandatory : No Calculator : None Response Time : N.A Think Time : N.A Minimum Instruction Time : 0**

**Correct Marks : 5 Wrong Marks : 1**

**Question Key Details :**

Key	Value
Comprehension	MCQ3

മാത്രകളെ സൂചിപ്പിക്കുന്ന ചിഹ്നം :-

1. X X X
2. # # #
3. 1 2 3
4. 1 1 1

**Options :**

- 485584134797. 1
- 485584134798. 2
- 485584134799. 3
- 485584134800. 4

**Question Number : 336 Question Id : 48558433701 Question Type : MCQ Option Shuffling : No Is Question Mandatory : No Calculator : None Response Time : N.A Think Time : N.A Minimum Instruction Time : 0**

**Correct Marks : 5 Wrong Marks : 1**

**Question Key Details :**

Key	Value
Comprehension	MCQ3

Earmark the laya 'Thah':

1. 1 2 3 4
2. 12 34 56 78
3. 123 456 789 10,11,12
4. 1234 1234 1234 1234

**Options :**

- 485584134801. 1
- 485584134802. 2
- 485584134803. 3
- 485584134804. 4

**Question Number : 336 Question Id : 48558433701 Question Type : MCQ Option Shuffling : No Is Question Mandatory : No Calculator : None Response Time : N.A Think Time : N.A Minimum Instruction Time : 0**

**Correct Marks : 5 Wrong Marks : 1**

**Question Key Details :**

Key	Value
Comprehension	MCQ3



ചുവടെ ചേർത്തിരിക്കുന്നതിൽ 'താഹ്' ലയയുടെ മുദ്രയേത് ?

1. 1 2 3 4

2. 12 34 56 78

3. 123 456 789 10,11,12

4. 1234 1234 1234 1234

**Options :**

485584134801. 1

485584134802. 2

485584134803. 3

485584134804. 4

**Question Number : 337 Question Id : 48558433702 Question Type : MCQ Option Shuffling : No Is Question Mandatory : No Calculator : None Response Time : N.A Think Time : N.A Minimum Instruction Time : 0**

**Correct Marks : 5 Wrong Marks : 1**

**Question Key Details :**

Key	Value
Comprehension	MCQ3

Syahi (ink) appearing in the Mridangam bears the color:

1. Green

2. Red

3. Black

4. Yellow

**Options :**

485584134805. 1

485584134806. 2

485584134807. 3

485584134808. 4

**Question Number : 337 Question Id : 48558433702 Question Type : MCQ Option Shuffling : No Is Question Mandatory : No Calculator : None Response Time : N.A Think Time : N.A Minimum Instruction Time : 0**

**Correct Marks : 5 Wrong Marks : 1**

**Question Key Details :**

Key	Value
Comprehension	MCQ3

മുദ്രാഗൃഹത്തിൽ പ്രത്യക്ഷപ്പെടുന്ന സിയാഹി (മഷി) നിറം ഏത് ?

1. പച്ച
2. ചുവപ്പ്
3. കറുപ്പ്
4. മഞ്ഞ

**Options :**

485584134805. 1  
485584134806. 2  
485584134807. 3  
485584134808. 4

**Question Number : 338 Question Id : 48558433703 Question Type : MCQ Option Shuffling : No Is Question Mandatory : No Calculator : None Response Time : N.A Think Time : N.A Minimum Instruction Time : 0**

**Correct Marks : 5 Wrong Marks : 1**

**Question Key Details :**

Key	Value
Comprehension	MCQ3

Identify the Tala:

Ka, dhe, Te, Dhe Te dhaa S .....

1. Teentala
2. Chartala
3. Dhamar
4. Jhampatala

**Options :**

485584134809. 1  
485584134810. 2  
485584134811. 3  
485584134812. 4

**Question Number : 338 Question Id : 48558433703 Question Type : MCQ Option Shuffling : No Is Question Mandatory : No Calculator : None Response Time : N.A Think Time : N.A Minimum Instruction Time : 0**

**Correct Marks : 5 Wrong Marks : 1**

**Question Key Details :**

Key	Value
Comprehension	MCQ3

കാ, ധേ, ഭേ, ധേ, ഭേ, ധാ സാ....

താളം രേഖപ്പെടുത്തുക:

1. തീൻ താളം
2. ചാർത്തല
3. ധമാർ
4. ജംബാതാളം

**Options :**

- 485584134809. 1
- 485584134810. 2
- 485584134811. 3
- 485584134812. 4

**Question Number : 339 Question Id : 48558433704 Question Type : MCQ Option Shuffling : No Is Question Mandatory : No Calculator : None Response Time : N.A Think Time : N.A Minimum Instruction Time : 0**

**Correct Marks : 5 Wrong Marks : 1**

**Question Key Details :**

Key	Value
Comprehension	MCQ3

'Baddhi' of Tabla is made up of:

1. String
2. Leather
3. Metal
4. Iron

**Options :**

- 485584134813. 1
- 485584134814. 2
- 485584134815. 3
- 485584134816. 4

**Question Number : 339 Question Id : 48558433704 Question Type : MCQ Option Shuffling : No Is Question Mandatory : No Calculator : None Response Time : N.A Think Time : N.A Minimum Instruction Time : 0**

**Correct Marks : 5 Wrong Marks : 1**

**Question Key Details :**

Key	Value
Comprehension	MCQ3

തബലയുടെ 'ബദ്ധി' നിർമ്മിച്ചിരിക്കുന്നത് :

1. സ്ത്രീംഗ്
2. തുകൾ
3. ലോഹം
4. ഇരുമ്പ്

**Options :**

485584134813. 1  
485584134814. 2  
485584134815. 3  
485584134816. 4

**Question Number : 340 Question Id : 48558433705 Question Type : MCQ Option Shuffling : No Is Question Mandatory : No Calculator : None Response Time : N.A Think Time : N.A Minimum Instruction Time : 0**

**Correct Marks : 5 Wrong Marks : 1**

**Question Key Details :**

Key	Value
Comprehension	MCQ3

Match List I with List II

LIST I		LIST II	
Revelations (Bal)		Tala	
A.	Dhi Na Dhi Dhi Na	I.	Teental
B.	Dha Dhin Dhin Dha	II.	Jhaptal
C.	Ti Ti Na	III.	Dadra
D.	Dha Dhi Na	IV.	Rupak

Choose the correct answer from the options given below:

1. A-I, B-III, C-II, D-IV
2. A-III, B-II, C-I, D-IV
3. A-IV, B-III, C-II, D-I
4. A-II, B-I, C-IV, D-III

**Options :**

485584134817. 1  
485584134818. 2  
485584134819. 3  
485584134820. 4

**Question Number : 340 Question Id : 48558433705 Question Type : MCQ Option Shuffling : No Is Question Mandatory : No Calculator : None Response Time : N.A Think Time : N.A Minimum Instruction Time : 0**

**Correct Marks : 5 Wrong Marks : 1**

**Question Key Details :**

Key	Value
-----	-------

അനുയോജ്യമായത് ചേർത്തെഴുതുക

LIST I		LIST II	
Revelations (Bal)		Tala	
A.	ധി, നാ, ധി, ധി, നാ	I.	തീൻ താളം
B.	ധാ, ധിൻ, ധിൻ, ധാ	II.	ജപതാളം
C.	തി, തി, നാ	III.	ദാദ്ര
D.	ധ, ധി, നാ	IV.	രൂപകം

താഴെ കൊടുത്തിരിക്കുന്നതിൽ നിന്നും ശരിയായ ഉത്തരം തിരഞ്ഞെടുക്കുക:

1. A-I, B-III, C-II, D-IV
2. A-III, B-II, C-I, D-IV
3. A-IV, B-III, C-II, D-I
4. A-II, B-I, C-IV, D-III

**Options :**

485584134817. 1  
485584134818. 2  
485584134819. 3  
485584134820. 4

**Question Number : 341 Question Id : 48558433706 Question Type : MCQ Option Shuffling : No Is Question Mandatory : No Calculator : None Response Time : N.A Think Time : N.A Minimum Instruction Time : 0**

**Correct Marks : 5 Wrong Marks : 1**

**Question Key Details :**

Key	Value
Comprehension	MCQ3

Match List I with List II

LIST I		LIST II	
Bandish		(Instruments) Vadya	
A.	Kayada	I.	Pakhawaj
B.	Stuti Paran	II.	Sitar
C.	Razakhani Gat	III.	Tabla
D.	Aamad	IV.	Kathak

Choose the correct answer from the options given below:

1. A-III, B-I, C-II, D-IV
2. A-II, B-III, C-IV, D-I
3. A-I, B-II, C-III, D-IV
4. A-IV, B-III, C-I, D-II

**Options :**

- 485584134821. 1
- 485584134822. 2
- 485584134823. 3
- 485584134824. 4

**Question Number : 341 Question Id : 48558433706 Question Type : MCQ Option Shuffling : No Is Question Mandatory : No Calculator : None Response Time : N.A Think Time : N.A Minimum Instruction Time : 0**

**Correct Marks : 5 Wrong Marks : 1**

**Question Key Details :**

Key	Value
Comprehension	MCQ3

അനുയോജ്യമായത് ചേർത്തെഴുതുക

LIST I		LIST II	
Bandish		(Instruments) Vadya	
A.	കയാദ	I.	പഖാവജ്
B.	സ്തുതി പാരാൻ	II.	സിത്താർ
C.	രസാവാനി ഗദ്	III.	തബല
D.	അഹമ്മദ്	IV.	കഥക്

താഴെ തന്നിരിക്കുന്നതിൽ നിന്നും ശരിയായ ഉത്തരം തിരഞ്ഞെടുക്കുക:

1. A-III, B-I, C-II, D-IV
2. A-II, B-III, C-IV, D-I
3. A-I, B-II, C-III, D-IV
4. A-IV, B-III, C-I, D-II

**Options :**

- 485584134821. 1
- 485584134822. 2
- 485584134823. 3
- 485584134824. 4

**Question Number : 342 Question Id : 48558433707 Question Type : MCQ Option Shuffling : No Is Question Mandatory : No Calculator : None Response Time : N.A Think Time : N.A Minimum Instruction Time : 0**

**Correct Marks : 5 Wrong Marks : 1**

**Question Key Details :**

Key	Value
Comprehension	MCQ3

Which among the following are played on Pakhawaj?

- A. Stuti Paran
- B. Tukda
- C. Rela
- D. Kayada
- E. Chakradar

Choose the correct answer from the options given below:

- 1. A, C and E
- 2. A, B and D
- 3. A, D and E
- 4. A, B and C

**Options :**

- 485584134825. 1
- 485584134826. 2
- 485584134827. 3
- 485584134828. 4

**Question Number : 342 Question Id : 48558433707 Question Type : MCQ Option Shuffling : No Is Question Mandatory : No Calculator : None Response Time : N.A Think Time : N.A Minimum Instruction Time : 0**

**Correct Marks : 5 Wrong Marks : 1**

**Question Key Details :**

Key	Value
Comprehension	MCQ3

ചുവടെ ചേർത്തിരിക്കുന്നവയിൽ ഏതാണ് പഖാവജിൽ ആലപിക്കുന്നത്?

- A. സ്തുതി പാരാൻ
- B. തുക്കട
- C. കേല
- D. കയാദ
- E. ചക്രദാർ

താഴെ ചേർത്തിരിക്കുന്നതിൽ നിന്നും ശരിയായ ഉത്തരം തിരഞ്ഞെടുക്കുക

- 1. ഉത്തരം A ഉം C ഉം E ഉം ശരിയാണ്
- 2. ഉത്തരം A ഉം B ഉം D ഉം ശരിയാണ്
- 3. ഉത്തരം A ഉം D ഉം E ഉം ശരിയാണ്
- 4. ഉത്തരം A ഉം B ഉം C ഉം ശരിയാണ്

**Options :**

- 485584134825. 1
- 485584134826. 2
- 485584134827. 3
- 485584134828. 4

**Question Number : 343 Question Id : 48558433708 Question Type : MCQ Option Shuffling : No Is Question Mandatory : No Calculator : None Response Time : N.A Think Time : N.A Minimum Instruction Time : 0**

**Correct Marks : 5 Wrong Marks : 1**

**Question Key Details :**

Key	Value
Comprehension	MCQ3

Select correct sequence of Tabla Players on the basis of their seniority.

- A. Kishan Maharaj
- B. Zakir Hussain
- C. Chotey Lal Mishra
- D. Ramji Mishra
- E. Ram Kumar Mishra

Choose the correct answer from the options given below:

- 1. A, C, D, B, E
- 2. A, B, C, D, E
- 3. A, D, E, C, B
- 4. A, E, D, C, B

**Options :**

- 485584134829. 1
- 485584134830. 2
- 485584134831. 3
- 485584134832. 4

**Question Number : 343 Question Id : 48558433708 Question Type : MCQ Option Shuffling : No Is Question Mandatory : No Calculator : None Response Time : N.A Think Time : N.A Minimum Instruction Time : 0**

**Correct Marks : 5 Wrong Marks : 1**

**Question Key Details :**

Key	Value
Comprehension	MCQ3



സീനിയോരിറ്റിയുടെ അടിസ്ഥാനത്തിൽ തബല വാദകരുടെ ശരിയായ ക്രമം തിരഞ്ഞെടുക്കുക.

- A. കിഷാൻ മഹാരാജ്
- B. സക്കീർ ഹുസൈൻ
- C. ഷേരാട്ടിലാൽ മിശ്ര
- D. രാജീ മിശ്ര
- E. രാം കുമാർ മിശ്ര

ചുവടെ തന്നിരിക്കുന്നതിൽ നിന്നും ശരിയായ ഉത്തരം കണ്ടെത്തുക:

- 1. A, C, D, B, E
- 2. A, B, C, D, E
- 3. A, D, E, C, B
- 4. A, E, D, C, B

**Options :**

- 485584134829. 1
- 485584134830. 2
- 485584134831. 3
- 485584134832. 4

**Question Number : 344 Question Id : 48558433709 Question Type : MCQ Option Shuffling : No Is Question Mandatory : No Calculator : None Response Time : N.A Think Time : N.A Minimum Instruction Time : 0**

**Correct Marks : 5 Wrong Marks : 1**

**Question Key Details :**

Key	Value
Comprehension	MCQ3

Which instruments (Vadya) are played during 'Bhajan' singing?

- A. Tabla
- B. Surbahar
- C. Pakhawaj
- D. Drum
- E. Harmonium

Choose the correct answer from the options given below:

- 1. A, B and C
- 2. A, C and E
- 3. A, D and B
- 4. B, D and E

**Options :**

- 485584134833. 1
- 485584134834. 2
- 485584134835. 3

485584134836. 4

**Question Number : 344 Question Id : 48558433709 Question Type : MCQ Option Shuffling : No Is Question Mandatory : No Calculator : None Response Time : N.A Think Time : N.A Minimum Instruction Time : 0**

**Correct Marks : 5 Wrong Marks : 1**

**Question Key Details :**

Key	Value
Comprehension	MCQ3

'ഭജൻ' ആലാപന സമയത്ത് ഏത് വാദ്യ ഉപകരണമാണ് വായിക്കുന്നത് ?

- A. തബല
- B. സൂർബഹാർ
- C. പഖാവായ്
- D. ഡ്രം
- E. ഹാർമോണിയം

താഴെ തന്നിരിക്കുന്നതിൽ നിന്നും ശരിയായ ഉത്തരം തിരഞ്ഞെടുക്കുക:

1. ഉത്തരം A ഉം B ഉം C ഉം ശരിയാണ്
2. ഉത്തരം A ഉം C ഉം E ഉം ശരിയാണ്
3. ഉത്തരം A ഉം D ഉം B ഉം ശരിയാണ്
4. ഉത്തരം B ഉം D ഉം E ഉം ശരിയാണ്

**Options :**

- 485584134833. 1
- 485584134834. 2
- 485584134835. 3
- 485584134836. 4

**Question Number : 345 Question Id : 48558433710 Question Type : MCQ Option Shuffling : No Is Question Mandatory : No Calculator : None Response Time : N.A Think Time : N.A Minimum Instruction Time : 0**

**Correct Marks : 5 Wrong Marks : 1**

**Question Key Details :**

Key	Value
Comprehension	MCQ3

Which of the following are Tabla Gharanas?

- A. Delhi
- B. Culcutta
- C. Ajrada
- D. Jaipur
- E. Farukhabad

Choose the correct answer from the options given below:

- 1. A, B and D
- 2. A, D and E
- 3. A, C and E
- 4. A, E and C

**Options :**

- 485584134837. 1
- 485584134838. 2
- 485584134839. 3
- 485584134840. 4

**Question Number : 345 Question Id : 48558433710 Question Type : MCQ Option Shuffling : No Is Question Mandatory : No Calculator : None Response Time : N.A Think Time : N.A Minimum Instruction Time : 0**

**Correct Marks : 5 Wrong Marks : 1**

**Question Key Details :**

Key	Value
Comprehension	MCQ3

ചുവടെ ചേർത്തിരിക്കുന്നവയിൽ ഏതാണ് തബല ഘരാനകൾ?

- A. ഡൽഹി
- B. കൽക്കത്ത
- C. അജ്രാദ
- D. ജയ്പൂർ
- E. ഫാറൂഖാബാദ്

താഴെ പറയുന്നവയിൽ നിന്നും ശരിയായ ഉത്തരം തിരഞ്ഞെടുക്കുക :

- 1. ഉത്തരം A ഉം B ഉം D ഉം ശരിയാണ്
- 2. ഉത്തരം A ഉം D ഉം E ഉം ശരിയാണ്
- 3. ഉത്തരം A ഉം C ഉം E ഉം ശരിയാണ്
- 4. ഉത്തരം A ഉം E ഉം C ഉം ശരിയാണ്

**Options :**

- 485584134837. 1
- 485584134838. 2

485584134839. 3  
485584134840. 4

## Drama And Theatre

Section Id : 485584866  
Section Number : 5  
Section type : Online  
Mandatory or Optional : Optional  
Number of Questions : 25  
Number of Questions to be attempted : 20  
Section Marks : 100  
Enable Mark as Answered Mark for Review and Clear Response : Yes  
Maximum Instruction Time : 0  
Sub-Section Number : 1  
Sub-Section Id : 4855842441  
Question Shuffling Allowed : Yes  
Is Section Default? : null

Question Number : 346 Question Id : 48558433711 Question Type : MCQ Option Shuffling : No Is Question Mandatory : No Calculator : None Response Time : N.A Think Time : N.A Minimum Instruction Time : 0

Correct Marks : 5 Wrong Marks : 1

Question Key Details :

Key	Value
Comprehension	MCQ4

In which sanskrit drama of Bhasa the curse of Parshurama plays an important role?

1. Madhyama Vyayoga
2. Karnabharam
3. Urubhangam
4. Dutavakyam

Options :

485584134841. 1  
485584134842. 2  
485584134843. 3  
485584134844. 4

Question Number : 346 Question Id : 48558433711 Question Type : MCQ Option Shuffling : No Is Question Mandatory : No Calculator : None Response Time : N.A Think Time : N.A Minimum Instruction Time : 0

Correct Marks : 5 Wrong Marks : 1

Question Key Details :

Key	Value
Comprehension	MCQ4

പരശുരാമന്റെ ശാപം പ്രധാന പങ്ക് വഹിക്കുന്ന ഭാസയുടെ സംസ്കൃത നാടകം ?

1. മാധ്യമ വ്യായോഗം
2. കർണ ഭാരം
3. ഊരുഭംഗം
4. ഭൂതവാക്യം

**Options :**

485584134841. 1  
485584134842. 2  
485584134843. 3  
485584134844. 4

**Question Number : 347 Question Id : 48558433712 Question Type : MCQ Option Shuffling : No Is Question Mandatory : No Calculator : None Response Time : N.A Think Time : N.A Minimum Instruction Time : 0**

**Correct Marks : 5 Wrong Marks : 1**

**Question Key Details :**

Key	Value
Comprehension	MCQ4

In which sanskrit drama Charudatta and Vasantsena appears as Nayaka and Nayika?

1. Svapna Vasavadattam
2. Mahaveer Charitam
3. Mricchakatikam
4. Abhijnanshakuntalam

**Options :**

485584134845. 1  
485584134846. 2  
485584134847. 3  
485584134848. 4

**Question Number : 347 Question Id : 48558433712 Question Type : MCQ Option Shuffling : No Is Question Mandatory : No Calculator : None Response Time : N.A Think Time : N.A Minimum Instruction Time : 0**

**Correct Marks : 5 Wrong Marks : 1**

**Question Key Details :**

Key	Value
Comprehension	MCQ4

ചാരൂദത്തയും വസന്തസേനയും നായികാ നായകൻമാരായി പ്രത്യക്ഷപ്പെടുന്ന സംസ്കൃത നാടകം:

1. സ്വപ്ന വാസവദത്ത
2. മഹാവീര ചരിതം
3. മുച്ഛുലദികം
4. അഭിജ്ഞാന ശാകുന്തളം

**Options :**

- 485584134845. 1
- 485584134846. 2
- 485584134847. 3
- 485584134848. 4

**Question Number : 348 Question Id : 48558433713 Question Type : MCQ Option Shuffling : No Is Question Mandatory : No Calculator : None Response Time : N.A Think Time : N.A Minimum Instruction Time : 0**

**Correct Marks : 5 Wrong Marks : 1**

**Question Key Details :**

Key	Value
Comprehension	MCQ4

The traditional Theatre Form created by the great religious thinker and reformer Shankardeva of Assam is known as:

1. Ankia Nat
2. Rasaleela
3. Krishnattam
4. Chhau

**Options :**

- 485584134849. 1
- 485584134850. 2
- 485584134851. 3
- 485584134852. 4

**Question Number : 348 Question Id : 48558433713 Question Type : MCQ Option Shuffling : No Is Question Mandatory : No Calculator : None Response Time : N.A Think Time : N.A Minimum Instruction Time : 0**

**Correct Marks : 5 Wrong Marks : 1**

**Question Key Details :**

Key	Value
Comprehension	MCQ4

ആസാമിലെ, മഹാനായ മതചിന്തകനും പരിഷ്കർത്താവുമായ ശങ്കർദേവൻ സൃഷ്ടിച്ച പരമ്പരാഗത നാടകരൂപം അറിയപ്പെടുന്നത് :

1. അങ്കിയ നാഥ്
2. രാസലീല
3. കുഷ്ഠാട്ടം
4. ചെറു

**Options :**

485584134849. 1  
485584134850. 2  
485584134851. 3  
485584134852. 4

**Question Number : 349 Question Id : 48558433714 Question Type : MCQ Option Shuffling : No Is Question Mandatory : No Calculator : None Response Time : N.A Think Time : N.A Minimum Instruction Time : 0**

**Correct Marks : 5 Wrong Marks : 1**

**Question Key Details :**

Key	Value
Comprehension	MCQ4

'Jokumarswami', the famous Kannada play is written by -

1. Girish Karnad
2. Adya Rangacharya
3. Chandrasekhar Kambar
4. H. S. Shivaprakash

**Options :**

485584134853. 1  
485584134854. 2  
485584134855. 3  
485584134856. 4

**Question Number : 349 Question Id : 48558433714 Question Type : MCQ Option Shuffling : No Is Question Mandatory : No Calculator : None Response Time : N.A Think Time : N.A Minimum Instruction Time : 0**

**Correct Marks : 5 Wrong Marks : 1**

**Question Key Details :**

Key	Value
Comprehension	MCQ4

പ്രശസ്ത കന്നഡ നാടകമായ 'ജ്യോകുമാർ സ്വാമി' രചിച്ചതാര് ?

1. ഗിരീഷ് കർണാഡ്
2. ഭരതൃ രംഗാചാര്യ
3. ചന്ദ്രശേഖർ കമ്പാർ
4. എച്ച്. എസ്. ശിവപ്രകാശ്

**Options :**

485584134853. 1  
485584134854. 2  
485584134855. 3  
485584134856. 4

**Question Number : 350 Question Id : 48558433715 Question Type : MCQ Option Shuffling : No Is Question Mandatory : No Calculator : None Response Time : N.A Think Time : N.A Minimum Instruction Time : 0**

**Correct Marks : 5 Wrong Marks : 1**

**Question Key Details :**

Key	Value
Comprehension	MCQ4

The famous Hindi play 'Adhe Adhure' which depicts the crisis of values faced by the middle class family, is written by:

1. Mohan Rakesh
2. Surendra Varma
3. Shankar Shesh
4. Mani Madhukar

**Options :**

485584134857. 1  
485584134858. 2  
485584134859. 3  
485584134860. 4

**Question Number : 350 Question Id : 48558433715 Question Type : MCQ Option Shuffling : No Is Question Mandatory : No Calculator : None Response Time : N.A Think Time : N.A Minimum Instruction Time : 0**

**Correct Marks : 5 Wrong Marks : 1**

**Question Key Details :**

Key	Value
Comprehension	MCQ4



ഉധ്യവർഗ കൂടുംബം അഭിമുഖീകരിക്കുന്ന മൂല്യങ്ങളുടെ പ്രതിസന്ധി ചിത്രീകരിക്കുന്ന പ്രശസ്ത ഹിന്ദി നാടകം 'അധേ അധൂരെ' എഴുതിയത്:

1. മോഹൻ രാജേഷ്
2. സുന്ദര വർമ്മ
3. ശങ്കർ ശേഷ്
4. മാണി മധുക്കാർ

**Options :**

- 485584134857. 1
- 485584134858. 2
- 485584134859. 3
- 485584134860. 4

**Question Number : 351 Question Id : 48558433716 Question Type : MCQ Option Shuffling : No Is Question Mandatory : No Calculator : None Response Time : N.A Think Time : N.A Minimum Instruction Time : 0**

**Correct Marks : 5 Wrong Marks : 1**

**Question Key Details :**

Key	Value
Comprehension	MCQ4

The Director who is famous for directing Mahakavi Bhasa plays :

1. Jabbar Patel
2. K. N. Pannikar
3. Pravin Joshi
4. Rajendar Nath

**Options :**

- 485584134861. 1
- 485584134862. 2
- 485584134863. 3
- 485584134864. 4

**Question Number : 351 Question Id : 48558433716 Question Type : MCQ Option Shuffling : No Is Question Mandatory : No Calculator : None Response Time : N.A Think Time : N.A Minimum Instruction Time : 0**

**Correct Marks : 5 Wrong Marks : 1**

**Question Key Details :**

Key	Value
Comprehension	MCQ4

'മഹാകവി ഭാസയുടെ' സംവിധാനത്തിലൂടെ പ്രശസ്തനായ സംവിധായകൻ :

1. ജബാർ പട്ടേൽ
2. കെ.എൻ. പണിക്കർ
3. പ്രവീൺ ജോഷി
4. രാജേന്ദ്ര നാഥ്

**Options :**

485584134861. 1  
485584134862. 2  
485584134863. 3  
485584134864. 4

**Question Number : 352 Question Id : 48558433717 Question Type : MCQ Option Shuffling : No Is Question Mandatory : No Calculator : None Response Time : N.A Think Time : N.A Minimum Instruction Time : 0**

**Correct Marks : 5 Wrong Marks : 1**

**Question Key Details :**

Key	Value
Comprehension	MCQ4

'Hypokrites' is a Greek word meaning:

1. Actor
2. Director
3. Producer
4. Playwright

**Options :**

485584134865. 1  
485584134866. 2  
485584134867. 3  
485584134868. 4

**Question Number : 352 Question Id : 48558433717 Question Type : MCQ Option Shuffling : No Is Question Mandatory : No Calculator : None Response Time : N.A Think Time : N.A Minimum Instruction Time : 0**

**Correct Marks : 5 Wrong Marks : 1**

**Question Key Details :**

Key	Value
Comprehension	MCQ4

'ഹിപ്പോക്രൈറ്റുകൾ' എന്ന ഗ്രീക്ക് പദത്തിന്റെ അർത്ഥം :

1. നടൻ
2. സംവിധായകൻ
3. നിർമ്മാതാവ്
4. നാടകകൃത്ത് / എഴുത്തുകാരൻ

**Options :**

- 485584134865. 1
- 485584134866. 2
- 485584134867. 3
- 485584134868. 4

**Question Number : 353 Question Id : 48558433718 Question Type : MCQ Option Shuffling : No Is Question Mandatory : No Calculator : None Response Time : N.A Think Time : N.A Minimum Instruction Time : 0**

**Correct Marks : 5 Wrong Marks : 1**

**Question Key Details :**

Key	Value
Comprehension	MCQ4

The only surviving Greek Trilogy is 'Aeschylus' -

1. The Persians
2. The Orestia
3. Agamemnon
4. The Eumenides

**Options :**

- 485584134869. 1
- 485584134870. 2
- 485584134871. 3
- 485584134872. 4

**Question Number : 353 Question Id : 48558433718 Question Type : MCQ Option Shuffling : No Is Question Mandatory : No Calculator : None Response Time : N.A Think Time : N.A Minimum Instruction Time : 0**

**Correct Marks : 5 Wrong Marks : 1**

**Question Key Details :**

Key	Value
Comprehension	MCQ4

അവശേഷിക്കുന്ന ഒരേയാരു ഗ്രീക്ക് ട്രൈലോജി 'എസ്കിലസ്' ആണ് :

1. പേർഷ്യക്കാർ
2. ഒറസ്സിയ
3. അഗമെമ്നോൺ
4. യൂമെനൈഡ്സ്

**Options :**

- 485584134869. 1
- 485584134870. 2
- 485584134871. 3
- 485584134872. 4

**Question Number : 354 Question Id : 48558433719 Question Type : MCQ Option Shuffling : No Is Question Mandatory : No Calculator : None Response Time : N.A Think Time : N.A Minimum Instruction Time : 0**

**Correct Marks : 5 Wrong Marks : 1**

**Question Key Details :**

Key	Value
Comprehension	MCQ4

Who among the following is NOT an acclaimed Shakespearean actor?

1. Charles Kean
2. Henry Irving
3. James Burbage
4. Laurence Olivier

**Options :**

- 485584134873. 1
- 485584134874. 2
- 485584134875. 3
- 485584134876. 4

**Question Number : 354 Question Id : 48558433719 Question Type : MCQ Option Shuffling : No Is Question Mandatory : No Calculator : None Response Time : N.A Think Time : N.A Minimum Instruction Time : 0**

**Correct Marks : 5 Wrong Marks : 1**

**Question Key Details :**

Key	Value
Comprehension	MCQ4

താഴെ പറയുന്നവയിൽ ആരാണ് അംഗീകരിക്കപ്പെട്ട ഷേക്സ്പീരിയൻ നടൻ അല്ലാത്തത് ?

1. ചാൾസ് കീൻ
2. ഹെൻറി ഇർവിൻ
3. ജെയിംസ് ബർ ബേജ്
4. ലോറൻസ് ഒലിവർ

**Options :**

- 485584134873. 1
- 485584134874. 2
- 485584134875. 3
- 485584134876. 4

**Question Number : 355 Question Id : 48558433720 Question Type : MCQ Option Shuffling : No Is Question Mandatory : No Calculator : None Response Time : N.A Think Time : N.A Minimum Instruction Time : 0**

**Correct Marks : 5 Wrong Marks : 1**

**Question Key Details :**

Key	Value
Comprehension	MCQ4

Which among the following plays is written by Anton Chekhov?

1. The Lower Depths
2. The Lesson
3. The Seagull
4. The Weavers

**Options :**

- 485584134877. 1
- 485584134878. 2
- 485584134879. 3
- 485584134880. 4

**Question Number : 355 Question Id : 48558433720 Question Type : MCQ Option Shuffling : No Is Question Mandatory : No Calculator : None Response Time : N.A Think Time : N.A Minimum Instruction Time : 0**

**Correct Marks : 5 Wrong Marks : 1**

**Question Key Details :**

Key	Value
Comprehension	MCQ4

ചുവടെ ചേർക്കുന്നവയിൽ ആന്റണി ചെക്കോവ് എഴുതിയ നാടകം?

1. താഴ്ന്ന ആഴങ്ങൾ
2. പാറ
3. കടൽ കാക്ക
4. നെയ്ത്തുകാർ

**Options :**

485584134877. 1  
485584134878. 2  
485584134879. 3  
485584134880. 4

**Question Number : 356 Question Id : 48558433721 Question Type : MCQ Option Shuffling : No Is Question Mandatory : No Calculator : None Response Time : N.A Think Time : N.A Minimum Instruction Time : 0**

**Correct Marks : 5 Wrong Marks : 1**

**Question Key Details :**

Key	Value
Comprehension	MCQ4

Which among the following plays is NOT written by Samuel Beckett?

1. Waiting for Godot
2. Happy days
3. The Birthday Party
4. Endgame

**Options :**

485584134881. 1  
485584134882. 2  
485584134883. 3  
485584134884. 4

**Question Number : 356 Question Id : 48558433721 Question Type : MCQ Option Shuffling : No Is Question Mandatory : No Calculator : None Response Time : N.A Think Time : N.A Minimum Instruction Time : 0**

**Correct Marks : 5 Wrong Marks : 1**

**Question Key Details :**

Key	Value
Comprehension	MCQ4

താഴെ പറയുന്നവയിൽ, സാമൂഹ്യ ബെക്കറ്റ് എഴുതിയ നാടകങ്ങൾ ?

1. ഗോഡോട്ടിനായി കാത്തിരിക്കുന്നു
2. സന്തോഷമായ ദിനങ്ങൾ
3. ജന്മദിന വിരുന്ന്
4. അവസാനത്തെ കുളി / എൻഡി ഗെയിം

**Options :**

- 485584134881. 1
- 485584134882. 2
- 485584134883. 3
- 485584134884. 4

**Question Number : 357 Question Id : 48558433722 Question Type : MCQ Option Shuffling : No Is Question Mandatory : No Calculator : None Response Time : N.A Think Time : N.A Minimum Instruction Time : 0**

**Correct Marks : 5 Wrong Marks : 1**

**Question Key Details :**

Key	Value
Comprehension	MCQ4

Meyerhold's contribution to theatre was:

1. Realism
2. Constructivism
3. Alienation
4. Fantastic Realism

**Options :**

- 485584134885. 1
- 485584134886. 2
- 485584134887. 3
- 485584134888. 4

**Question Number : 357 Question Id : 48558433722 Question Type : MCQ Option Shuffling : No Is Question Mandatory : No Calculator : None Response Time : N.A Think Time : N.A Minimum Instruction Time : 0**

**Correct Marks : 5 Wrong Marks : 1**

**Question Key Details :**

Key	Value
Comprehension	MCQ4

നാടക രംഗത്ത് മേയർഹോൾഡിന്റെ സംഭാവന :

1. യാഥാർത്ഥ്യ വാദം
2. ജ്ഞാന നിർമ്മിത വാദം
3. അന്യവൽക്കരണം
4. അതിശയകരമായ യാഥാർത്ഥ്യ പ്രസ്ഥാനം

**Options :**

- 485584134885. 1
- 485584134886. 2
- 485584134887. 3
- 485584134888. 4

**Question Number : 358 Question Id : 48558433723 Question Type : MCQ Option Shuffling : No Is Question Mandatory : No Calculator : None Response Time : N.A Think Time : N.A Minimum Instruction Time : 0**

**Correct Marks : 5 Wrong Marks : 1**

**Question Key Details :**

Key	Value
Comprehension	MCQ4

On the Picture Frame stage, the inner proscenium consists of a floor-length side drapes, which are called:

1. Projections
2. Grand draperies
3. Tormentors
4. Teasers

**Options :**

- 485584134889. 1
- 485584134890. 2
- 485584134891. 3
- 485584134892. 4

**Question Number : 358 Question Id : 48558433723 Question Type : MCQ Option Shuffling : No Is Question Mandatory : No Calculator : None Response Time : N.A Think Time : N.A Minimum Instruction Time : 0**

**Correct Marks : 5 Wrong Marks : 1**

**Question Key Details :**

Key	Value
Comprehension	MCQ4



പിക്ചർ ഫ്രെയിം സ്റ്റേജിൽ, അകത്തെ പ്രൊസീനിയത്തിൽ ഒരു ഫ്ലോർലെങ്ത് സൈഡ് ഡ്രെപ്പുകൾ അടങ്ങിയിരിക്കുന്നു. അവയെ വിളിക്കുന്നതെന്ത്?

1. പ്രൊജക്ഷനുകൾ
2. ഗ്രാൻഡ് ഡ്രെപ്പറികൾ
3. ടോർമെന്റേർസ്
4. ടീസറുകൾ

**Options :**

- 485584134889. 1
- 485584134890. 2
- 485584134891. 3
- 485584134892. 4

**Question Number : 359 Question Id : 48558433724 Question Type : MCQ Option Shuffling : No Is Question Mandatory : No Calculator : None Response Time : N.A Think Time : N.A Minimum Instruction Time : 0**

**Correct Marks : 5 Wrong Marks : 1**

**Question Key Details :**

Key	Value
Comprehension	MCQ4

A fire-retardant curtain that can be lowered to fill the proscenium arch, is called:

1. Front Curtain
2. Asbestos Curtain
3. Back Curtain
4. Cyclorama

**Options :**

- 485584134893. 1
- 485584134894. 2
- 485584134895. 3
- 485584134896. 4

**Question Number : 359 Question Id : 48558433724 Question Type : MCQ Option Shuffling : No Is Question Mandatory : No Calculator : None Response Time : N.A Think Time : N.A Minimum Instruction Time : 0**

**Correct Marks : 5 Wrong Marks : 1**

**Question Key Details :**

Key	Value
Comprehension	MCQ4

പ്രൊസീനിയം കമാനം മറയ്ക്കാൻ, താഴ്ത്താവുന്ന അഗ്നിശമന കർട്ടൻ അറിയപ്പെടുന്നതത്:

1. ഫ്രണ്ട് കർട്ടൻ
2. ആസ്ബറോസ് കർട്ടൻ
3. ബാക്ക് കർട്ടൻ
4. സൈക്ലോറമ

**Options :**

- 485584134893. 1
- 485584134894. 2
- 485584134895. 3
- 485584134896. 4

**Question Number : 360 Question Id : 48558433725 Question Type : MCQ Option Shuffling : No Is Question Mandatory : No Calculator : None Response Time : N.A Think Time : N.A Minimum Instruction Time : 0**

**Correct Marks : 5 Wrong Marks : 1**

**Question Key Details :**

Key	Value
Comprehension	MCQ4

What is used as foundation or base for the rest of the Makeup?

1. Greasepaint
2. Mascara
3. Rouge
4. Powder

**Options :**

- 485584134897. 1
- 485584134898. 2
- 485584134899. 3
- 485584134900. 4

**Question Number : 360 Question Id : 48558433725 Question Type : MCQ Option Shuffling : No Is Question Mandatory : No Calculator : None Response Time : N.A Think Time : N.A Minimum Instruction Time : 0**

**Correct Marks : 5 Wrong Marks : 1**

**Question Key Details :**

Key	Value
Comprehension	MCQ4

മേയ്ക്കപ്പിന് അടിസ്ഥാനമിടാൻ ഉപയോഗിക്കുന്നതെന്ത് ?

1. ഗ്രീസ് പെയിന്റ്
2. മസ്തൂര
3. അസംസ്കൃതം
4. പൊടി/പെന്റഡർ

**Options :**

485584134897. 1  
485584134898. 2  
485584134899. 3  
485584134900. 4

**Question Number : 361 Question Id : 48558433726 Question Type : MCQ Option Shuffling : No Is Question Mandatory : No Calculator : None Response Time : N.A Think Time : N.A Minimum Instruction Time : 0**

**Correct Marks : 5 Wrong Marks : 1**

**Question Key Details :**

Key	Value
Comprehension	MCQ4

The three plays written by Kalidasa are:

- A. Malvika Agnimitram
- B. Abhijnan Shakuntalam
- C. Svapna Vasavdattam
- D. Vikramorvashiyam
- E. Uttara Ramacharitam

Choose the correct answer from the options given below:

1. D, E and B only
2. A, B and D only
3. B, C and E only
4. C, D and A only

**Options :**

485584134901. 1  
485584134902. 2  
485584134903. 3  
485584134904. 4

**Question Number : 361 Question Id : 48558433726 Question Type : MCQ Option Shuffling : No Is Question Mandatory : No Calculator : None Response Time : N.A Think Time : N.A Minimum Instruction Time : 0**

**Correct Marks : 5 Wrong Marks : 1**

**Question Key Details :**

Key	Value
Comprehension	MCQ4

കാളിദാസൻ എഴുതിയ മൂന്നു നാടകങ്ങൾ:

- A. മാളവിക അഗ്നിമിത്രം
- B. അഭിജ്ഞാന ശാകുന്തളം
- C. വിക്രമോർവ്വേശ്യം
- D. ഉത്തര രാമ ചരിത്രം

താഴെ പറയുന്നവയിൽ നിന്നും ശരിയായ ഉത്തരം തിരഞ്ഞെടുക്കുക:

- 1. D ഉം E ഉം B ഉം മാത്രം ശരിയാണ്
- 2. A ഉം B ഉം D ഉം മാത്രം ശരിയാണ്
- 3. B ഉം C ഉം E ഉം മാത്രം ശരിയാണ്
- 4. C ഉം D ഉം A ഉം മാത്രം ശരിയാണ്

**Options :**

- 485584134901. 1
- 485584134902. 2
- 485584134903. 3
- 485584134904. 4

**Question Number : 362 Question Id : 48558433727 Question Type : MCQ Option Shuffling : No Is Question Mandatory : No Calculator : None Response Time : N.A Think Time : N.A Minimum Instruction Time : 0**

**Correct Marks : 5 Wrong Marks : 1**

**Question Key Details :**

Key	Value
Comprehension	MCQ4

The three famous plays written by Rabindranath Tagore are:

- A. Visarjan
- B. Rajdarshan
- C. Dakghar
- D. Nabanna
- E. Muktheadhara

Choose the correct answer from the options given below:

- 1. D, A and C only
- 2. A, C and E only
- 3. B, D and A only
- 4. C, E and B only

**Options :**

- 485584134905. 1
- 485584134906. 2
- 485584134907. 3
- 485584134908. 4

Question Number : 362 Question Id : 48558433727 Question Type : MCQ Option Shuffling : No Is Question Mandatory : No Calculator : None Response Time : N.A Think Time : N.A Minimum Instruction Time : 0

Correct Marks : 5 Wrong Marks : 1

Question Key Details :

Key	Value
Comprehension	MCQ4

രീന്ദനാഥ ടാഗോർ രചിച്ച പ്രശസ്തമായ മൂന്നു നാടകങ്ങൾ ഇവയാണ് :

- A. വിസർജൻ
- B. രാജ ദർശൻ
- C. ദാക് ഘർ
- D. നബന്ന
- E. മുക്തധാര

ചുവടെ ചേർത്തവയിൽ നിന്നും ശരിയായ ഉത്തരം തിരഞ്ഞെടുത്ത് എഴുതുക

1. D ഉം A ഉം C ഉം മാത്രം ശരിയാണ്
2. A ഉം C ഉം E ഉം മാത്രം ശരിയാണ്
3. B ഉം D ഉം A ഉം മാത്രം ശരിയാണ്
4. C ഉം E ഉം B ഉം മാത്രം ശരിയാണ്

Options :

- 485584134905. 1
- 485584134906. 2
- 485584134907. 3
- 485584134908. 4

Question Number : 363 Question Id : 48558433728 Question Type : MCQ Option Shuffling : No Is Question Mandatory : No Calculator : None Response Time : N.A Think Time : N.A Minimum Instruction Time : 0

Correct Marks : 5 Wrong Marks : 1

Question Key Details :

Key	Value
Comprehension	MCQ4

Identify from the following the three Shakespearean Comedies:

- A. Julius Caesar
- B. The Comedy of Errors
- C. The Two Gentlemen of Verona
- D. The Taming of the Shrew
- E. King Lear

Choose the correct answer from the options given below:

- 1. B, C and D only
- 2. A, B and C only
- 3. C, D and E only
- 4. A, C and E only

**Options :**

- 485584134909. 1
- 485584134910. 2
- 485584134911. 3
- 485584134912. 4

**Question Number : 363 Question Id : 48558433728 Question Type : MCQ Option Shuffling : No Is Question Mandatory : No Calculator : None Response Time : N.A Think Time : N.A Minimum Instruction Time : 0**

**Correct Marks : 5 Wrong Marks : 1**

**Question Key Details :**

Key	Value
Comprehension	MCQ4

താഴെ പറയുന്നവയിൽ നിന്നും ഷേക്സ്പിയർ എഴുതിയ മൂന്ന് കോമഡികൾ കണ്ടെത്തുക :

- A. ജൂലിയസ് സീസർ
- B. തെറ്റുകളുടെ കോമഡി
- C. വെറോണിയിലെ രണ്ട് മാന്യൻമാർ
- D. ദ താമിംഗ് ദ ഷ്യൂറു
- E. കിംഗ് ലയർ

ചുവടെ ചേർത്തിരിക്കുന്നവയിൽ നിന്നും ശരിയായ ഉത്തരം തിരഞ്ഞെടുക്കുക

- 1. B ഉം C ഉം D ഉം മാത്രം ശരിയാണ്
- 2. A ഉം B ഉം C ഉം മാത്രം ശരിയാണ്
- 3. C ഉം D ഉം E ഉം മാത്രം ശരിയാണ്
- 4. A ഉം C ഉം E ഉം മാത്രം ശരിയാണ്

**Options :**

- 485584134909. 1
- 485584134910. 2
- 485584134911. 3

**Question Number : 364 Question Id : 48558433729 Question Type : MCQ Option Shuffling : No Is Question Mandatory : No Calculator : None Response Time : N.A Think Time : N.A Minimum Instruction Time : 0**

**Correct Marks : 5 Wrong Marks : 1**

**Question Key Details :**

Key	Value
Comprehension	MCQ4

Identify from among the following, the three plays written by Harold Pinter:

- A. Homecoming
- B. The Caretaker
- C. The Chairs
- D. Endgame
- E. The Birthday Party

Choose the correct answer from the options given below:

- 1. A, B and E only
- 2. B, C and A only
- 3. C, D and B only
- 4. D, E and A only

**Options :**

- 485584134913. 1
- 485584134914. 2
- 485584134915. 3
- 485584134916. 4

**Question Number : 364 Question Id : 48558433729 Question Type : MCQ Option Shuffling : No Is Question Mandatory : No Calculator : None Response Time : N.A Think Time : N.A Minimum Instruction Time : 0**

**Correct Marks : 5 Wrong Marks : 1**

**Question Key Details :**

Key	Value
Comprehension	MCQ4

ചുവടെ തന്നിരിക്കുന്നതിൽ നിന്നും 'ഹാരോൾഡ് പിങ്ക്സ്' എഴുതിയ മൂന്ന് നാടകങ്ങൾ തിരിച്ചറിയുക:

- A. ഹോംകമിംഗ് / വീട്ടിൽ വരുന്നു
- B. പരിപാലകൻ
- C. കസേരകൾ
- D. അവസാനത്തെ കുളി / എൻഡ് ഗെയിം
- E. ജന്മ വിരുന്ന്

ചുവടെ ചേർത്തിരിക്കുന്നവയിൽ നിന്നും ശരിയായ ഉത്തരം തിരഞ്ഞെടുക്കുക

- 1. A ഉം B ഉം E ഉം മാത്രം ശരിയാണ്
- 2. B ഉം C ഉം A ഉം മാത്രം ശരിയാണ്
- 3. C ഉം D ഉം B ഉം മാത്രം ശരിയാണ്
- 4. D ഉം E ഉം A ഉം മാത്രം ശരിയാണ്

**Options :**

- 485584134913. 1
- 485584134914. 2
- 485584134915. 3
- 485584134916. 4

**Question Number : 365 Question Id : 48558433730 Question Type : MCQ Option Shuffling : No Is Question Mandatory : No Calculator : None Response Time : N.A Think Time : N.A Minimum Instruction Time : 0**

**Correct Marks : 5 Wrong Marks : 1**

**Question Key Details :**

Key	Value
Comprehension	MCQ4

Lee Strasberg was associated with which three of the following?

- A. Berliner Ensemble
- B. Royal Shakespeare Company
- C. Theatre Guild
- D. Group Theatre
- E. Actors' Studio

Choose the correct answer from the options given below:

- 1. A, B and D only
- 2. C, D and E only
- 3. B, C and D only
- 4. A, C and E only

**Options :**

- 485584134917. 1
- 485584134918. 2
- 485584134919. 3



485584134920. 4

**Question Number : 365 Question Id : 48558433730 Question Type : MCQ Option Shuffling : No Is Question Mandatory : No Calculator : None Response Time : N.A Think Time : N.A Minimum Instruction Time : 0**

**Correct Marks : 5 Wrong Marks : 1**

**Question Key Details :**

Key	Value
Comprehension	MCQ4

ലീ സ്ട്രാസ്ബർഗ് താഴെ പറയുന്നവയിൽ മൂന്നെണ്ണവുമായി ബന്ധപ്പെട്ടിരിക്കുന്നു. ഏതെല്ലാം?

- A. ബെർലിനെൻ എൻസെംബിൾ
- B. റോയൽ ഷെക്സ്പിയർ കമ്പനി
- C. തിയേറ്റർ ഗിൽഡ്
- D. ഗ്രൂപ്പ് തിയേറ്റർ
- E. ആക്ടേഴ്സ് സ്ട്രൂഡിയോ

താഴെ പറയുന്നവയിൽ നിന്നും ശരിയായ ഉത്തരം തിരഞ്ഞെടുത്ത് എഴുതുക :

- 1. A ഉം B ഉം D ഉം മാത്രം ശരിയാണ്
- 2. C ഉം D ഉം E ഉം മാത്രം ശരിയാണ്
- 3. B ഉം C ഉം D ഉം മാത്രം ശരിയാണ്
- 4. A ഉം C ഉം E ഉം മാത്രം ശരിയാണ്

**Options :**

- 485584134917. 1
- 485584134918. 2
- 485584134919. 3
- 485584134920. 4

**Question Number : 366 Question Id : 48558433731 Question Type : MCQ Option Shuffling : No Is Question Mandatory : No Calculator : None Response Time : N.A Think Time : N.A Minimum Instruction Time : 0**

**Correct Marks : 5 Wrong Marks : 1**

**Question Key Details :**

Key	Value
Comprehension	MCQ4

Match List I with List II

LIST I		LIST II	
A.	Kalidasa	I.	Svapna Vasavadattam
B.	Bhavabhuti	II.	Mricchakatikam
C.	Shudraka	III.	Abhijnan Shakuntalam
D.	Bhasa	IV.	Uttara Ramacharitam

Choose the correct answer from the options given below:

1. A-I, B-II, C-IV, D-III
2. A-II, B-III, C-I, D-IV
3. A-III, B-IV, C-II, D-I
4. A-IV, B-I, C-III, D-II

**Options :**

- 485584134921. 1
- 485584134922. 2
- 485584134923. 3
- 485584134924. 4

**Question Number : 366 Question Id : 48558433731 Question Type : MCQ Option Shuffling : No Is Question Mandatory : No Calculator : None Response Time : N.A Think Time : N.A Minimum Instruction Time : 0**

**Correct Marks : 5 Wrong Marks : 1**

**Question Key Details :**

Key	Value
Comprehension	MCQ4

അനുയോജ്യമായത് ചേർത്തെഴുതുക

LIST I		LIST II	
A.	കാളിദാസൻ	I.	സ്വപ്ന വാസവദത്ത
B.	ഭാവഭൂതി	II.	മൃച്ഛകാടികം
C.	ശൂദ്രകൻ	III.	അഭിജ്ഞാന ശാകുന്തളം
D.	ഭാസ	IV.	ഉത്തര രാമ ചരിതം

ചുവടെ ചേർത്തവയിൽ നിന്നും ശരിയായ ഉത്തരം തിരഞ്ഞെടുത്ത് എഴുതുക :

1. A-I, B-II, C-IV, D-III
2. A-II, B-III, C-I, D-IV
3. A-III, B-IV, C-II, D-I
4. A-IV, B-I, C-III, D-II

**Options :**

- 485584134921. 1
- 485584134922. 2
- 485584134923. 3
- 485584134924. 4

Question Number : 367 Question Id : 48558433732 Question Type : MCQ Option Shuffling : No Is Question Mandatory : No Calculator : None Response Time : N.A Think Time : N.A Minimum Instruction Time : 0

Correct Marks : 5 Wrong Marks : 1

Question Key Details :

Key	Value
Comprehension	MCQ4

Match List I with List II

LIST I		LIST II	
A.	Vijaya Mehta	I.	Santu Rangili
B.	Satyadev Dubey	II.	Andha Yug
C.	E. Alkazi	III.	Are Mayavi Sarovar
D.	Pravin Joshi	IV.	Ek Shunya Bajirao

Choose the correct answer from the options given below:

1. A-II, B-I, C-IV, D-III
2. A-III, B-II, C-I, D-IV
3. A-IV, B-III, C-II, D-I
4. A-I, B-IV, C-III, D-II

Options :

- 485584134925. 1
- 485584134926. 2
- 485584134927. 3
- 485584134928. 4

Question Number : 367 Question Id : 48558433732 Question Type : MCQ Option Shuffling : No Is Question Mandatory : No Calculator : None Response Time : N.A Think Time : N.A Minimum Instruction Time : 0

Correct Marks : 5 Wrong Marks : 1

Question Key Details :

Key	Value
Comprehension	MCQ4

അനുയോജ്യമായത് ചേർത്തെഴുതുക

LIST I		LIST II	
A.	വിജയ മേത്ത	I.	സന്തു രംഗിലി
B.	സത്യദേവ് ദുബെ	II.	അന്ധ യുഗ്
C.	അൽകാസി	III.	മായാവി സരോവർ
D.	പ്രവീണ ജോഷി	IV.	ഏക് ശൂന്യ ബാജിറാവു

ചുവടെ തന്നിരിക്കുന്നതിൽ നിന്നും ശരിയായ ഉത്തരം തിരഞ്ഞെടുക്കുക :

1. A-II, B-I, C-IV, D-III
2. A-III, B-II, C-I, D-IV
3. A-IV, B-III, C-II, D-I
4. A-I, B-IV, C-III, D-II

**Options :**

485584134925. 1  
 485584134926. 2  
 485584134927. 3  
 485584134928. 4

**Question Number : 368 Question Id : 48558433733 Question Type : MCQ Option Shuffling : No Is Question Mandatory : No Calculator : None Response Time : N.A Think Time : N.A Minimum Instruction Time : 0**

**Correct Marks : 5 Wrong Marks : 1**

**Question Key Details :**

Key	Value
Comprehension	MCQ4

Match List I with List II

LIST I		LIST II	
Plays		Characters	
A.	Julius Caesar	I.	Horatio
B.	Othello	II.	King Duncan
C.	Macbeth	III.	Desdemona
D.	Hamlet	IV.	Marcus Brutus

Choose the correct answer from the options given below:

1. A-IV, B-III, C-II, D-I
2. A-I, B-II, C-III, D-IV
3. A-IV, B-I, C-III, D-II
4. A-II, B-III, C-I, D-IV

**Options :**

485584134929. 1  
 485584134930. 2  
 485584134931. 3  
 485584134932. 4

**Question Number : 368 Question Id : 48558433733 Question Type : MCQ Option Shuffling : No Is Question Mandatory : No Calculator : None Response Time : N.A Think Time : N.A Minimum Instruction Time : 0**

**Correct Marks : 5 Wrong Marks : 1**

**Question Key Details :**

Key	Value
Comprehension	MCQ4

അനുയോജ്യമായത് ചേർത്തെഴുതുക

LIST I		LIST II	
Plays		Characters	
A.	ജൂലിയസ് സീസർ	I.	ഹെറോഷ്യോ
B.	ഒഥല്ലോ	II.	ഡങ്കൻ രാജാവ്
C.	മാക്ബത്ത്	III.	ഡെസ്റ്റിമോണ
D.	ഹാംലെറ്റ്	IV.	മാർക്കസ് ബ്രൂട്ടസ്

താഴെ കൊടുത്തിരിക്കുന്നവയിൽ നിന്നും ശരിയായ ഉത്തരം തിരഞ്ഞെടുക്കുക :

1. A-IV, B-III, C-II, D-I
2. A-I, B-II, C-III, D-IV
3. A-IV, B-I, C-III, D-II
4. A-II, B-III, C-I, D-IV

Options :

485584134929. 1  
 485584134930. 2  
 485584134931. 3  
 485584134932. 4

Question Number : 369 Question Id : 48558433734 Question Type : MCQ Option Shuffling : No Is Question Mandatory : No Calculator : None Response Time : N.A Think Time : N.A Minimum Instruction Time : 0

Correct Marks : 5 Wrong Marks : 1

Question Key Details :

Key	Value
Comprehension	MCQ4

Match List I with List II

LIST I		LIST II	
A.	Ibsen Henrik	I.	The Father
B.	Chekhov Anton	II.	Ghosts
C.	Strindberg August	III.	Death of a Salesman
D.	Arthur Miller	IV.	The Cherry Orchard

Choose the correct answer from the options given below:

1. A-I, B-III, C-IV, D-II
2. A-II, B-IV, C-I, D-III
3. A-III, B-I, C-II, D-IV
4. A-IV, B-II, C-III, D-I

Options :

485584134933. 1  
 485584134934. 2  
 485584134935. 3

**Question Number : 369 Question Id : 48558433734 Question Type : MCQ Option Shuffling : No Is Question Mandatory : No Calculator : None Response Time : N.A Think Time : N.A Minimum Instruction Time : 0**

**Correct Marks : 5 Wrong Marks : 1**

**Question Key Details :**

<b>Key</b>	<b>Value</b>
Comprehension	MCQ4

അനുയോജ്യമായത് ചേർത്തെഴുതുക

LIST I		LIST II	
A.	ഇബ്സെൻ ഹെന്റിക്	I.	ഫാദർ/പിതാവ്
B.	ചെക്കോവി ആന്റണി	II.	പ്രേതങ്ങൾ
C.	സ്ക്രിൻബെർഗ് ആഗസ്റ്റ്	III.	ഒരു വിൽപ്പനക്കാരന്റെ മരണം
D.	ആർതർ മില്ലർ	IV.	ചെറിത്തോട്ടം

താഴെ തന്നിരിക്കുന്നതിൽ നിന്നും ശരിയായ ഉത്തരം തിരഞ്ഞെടുത്ത് എഴുതുക :

1. A-I, B-III, C-IV, D-II
2. A-II, B-IV, C-I, D-III
3. A-III, B-I, C-II, D-IV
4. A-IV, B-II, C-III, D-I

**Options :**

- 485584134933. 1
- 485584134934. 2
- 485584134935. 3
- 485584134936. 4

**Question Number : 370 Question Id : 48558433735 Question Type : MCQ Option Shuffling : No Is Question Mandatory : No Calculator : None Response Time : N.A Think Time : N.A Minimum Instruction Time : 0**

**Correct Marks : 5 Wrong Marks : 1**

**Question Key Details :**

<b>Key</b>	<b>Value</b>
Comprehension	MCQ4

Give the correct sequence of the following Traditional Theatre Forms according to their Geographical origin from South to North.

- A. Tamasha
- B. Yakshagana
- C. Bhand Jashna
- D. Kutiyattam
- E. Svanga

Choose the correct answer from the options given below:

- 1. D, B, A, E, C
- 2. E, C, B, A, D
- 3. A, D, C, B, E
- 4. B, E, D, C, A

**Options :**

- 485584134937. 1
- 485584134938. 2
- 485584134939. 3
- 485584134940. 4

**Question Number : 370 Question Id : 48558433735 Question Type : MCQ Option Shuffling : No Is Question Mandatory : No Calculator : None Response Time : N.A Think Time : N.A Minimum Instruction Time : 0**

**Correct Marks : 5 Wrong Marks : 1**

**Question Key Details :**

Key	Value
Comprehension	MCQ4

തെക്കുംതെക്കു വടക്ക് വരെയുള്ള ഭൂമിശാസ്ത്രപരമായ ഉറവിടം അനുസരിച്ച് താഴെ പറയുന്ന പരമ്പരാഗത നാടക രൂപങ്ങളുടെ ശരിയായ ക്രമം നൽകുക.

- A. തമാശ
- B. യക്ഷഗാനം
- C. ഭണ്ട ജാഷ്ന
- D. കൂടിയാട്ടം
- E. സ്വംഗ

ചുവടെ നൽകിയിരിക്കുന്നതിൽ നിന്നും ശരിയായ ഉത്തരം തിരഞ്ഞെടുത്ത് എഴുതുക

- 1. D, B, A, E, C ശരിയാണ്
- 2. E, C, B, A, D ശരിയാണ്
- 3. A, D, C, B, E ശരിയാണ്
- 4. B, E, D, C, A ശരിയാണ്

**Options :**

- 485584134937. 1
- 485584134938. 2

485584134939. 3

485584134940. 4

## Political Science

Group Number :	11
Group Id :	485584749
Group Maximum Duration :	45
Group Minimum Duration :	45
Show Attended Group? :	No
Edit Attended Group? :	No
Break time :	0
Group Marks :	200
Is this Group for Examiner? :	No
Examiner permission :	Cant View
Show Progress Bar? :	No

## Political Science

Section Id :	485584867
Section Number :	1
Section type :	Online
Mandatory or Optional :	Mandatory
Number of Questions :	50
Number of Questions to be attempted :	40
Section Marks :	200
Enable Mark as Answered Mark for Review and Clear Response :	Yes
Maximum Instruction Time :	0
Sub-Section Number :	1
Sub-Section Id :	4855842442
Question Shuffling Allowed :	Yes
Is Section Default? :	null

Question Number : 371 Question Id : 48558433736 Question Type : MCQ Option Shuffling : No Is Question Mandatory : No Calculator : None Response Time : N.A Think Time : N.A Minimum Instruction Time : 0

Correct Marks : 5 Wrong Marks : 1

Question Key Details :

Key	Value
Comprehension	MCQ

Prime minister of India addressed a special speech on 14<sup>th</sup> and 15<sup>th</sup> August midnight.

It was called:

1. Trust in the Nation
2. Tryst with India
3. Tryst with destiny
4. Independent India

Options :



- 485584134941. 1
- 485584134942. 2
- 485584134943. 3
- 485584134944. 4

**Question Number : 372 Question Id : 48558433737 Question Type : MCQ Option Shuffling : No Is Question Mandatory : No Calculator : None Response Time : N.A Think Time : N.A Minimum Instruction Time : 0**

**Correct Marks : 5 Wrong Marks : 1**

**Question Key Details :**

Key	Value
Comprehension	MCQ

State requisition Act was passed in which year?

- 1. 1952
- 2. 1954
- 3. 1956
- 4. 1958

**Options :**

- 485584134945. 1
- 485584134946. 2
- 485584134947. 3
- 485584134948. 4

**Question Number : 373 Question Id : 48558433738 Question Type : MCQ Option Shuffling : No Is Question Mandatory : No Calculator : None Response Time : N.A Think Time : N.A Minimum Instruction Time : 0**

**Correct Marks : 5 Wrong Marks : 1**

**Question Key Details :**

Key	Value
Comprehension	MCQ

Given below are two statements: one is labelled as Assertion A and other is labelled as Reason R

**Assertion A:** Towards the end of 1990's the election commission started using the EVM.

**Reason R:** By 2004 the entire country had shifted to the EVM. But it was decided to place inside each polling booth a box for each candidate.

In the light of the above statements, choose the correct answer from the options given below

- 1. Both A and R are true and R is the correct explanation of A
- 2. Both A and R are true but R is the NOT correct explanation of A
- 3. A is true but R is not false
- 4. A is false but R is true

**Options :**

- 485584134949. 1
- 485584134950. 2

485584134951. 3

485584134952. 4

**Question Number : 374 Question Id : 48558433739 Question Type : MCQ Option Shuffling : No Is Question Mandatory : No Calculator : None Response Time : N.A Think Time : N.A Minimum Instruction Time : 0**

**Correct Marks : 5 Wrong Marks : 1**

**Question Key Details :**

Key	Value
Comprehension	MCQ

Match List I with List II

LIST I		LIST II	
A.	Adopted Buddhism in 1956 and the leader of anti-caste movement	I.	PRI
B.	Founded in 1929, as National revolutionary party	II.	Acharya Narendra Dev
C.	Freedom fighter and a scholar of Buddhism	III.	Bhartiya Jan Sangh
D.	In 1951 party was formed with Shyam Prasad Mukherjee	IV.	Babasaheb Bhimrao Ambedkar

Choose the correct answer from the options given below:

1. A-I, B-II, C-III, D-IV

2. A-IV, B-I, C-II, D-III

3. A-III, B-II, C-IV, D-I

4. A-IV, B-III, C-II, D-I

**Options :**

485584134953. 1

485584134954. 2

485584134955. 3

485584134956. 4

**Question Number : 375 Question Id : 48558433740 Question Type : MCQ Option Shuffling : No Is Question Mandatory : No Calculator : None Response Time : N.A Think Time : N.A Minimum Instruction Time : 0**

**Correct Marks : 5 Wrong Marks : 1**

**Question Key Details :**

Key	Value
Comprehension	MCQ

Who was the director of Marathi Film Simhasan?

1. Jabbar Patel

2. Vijay Tendulkar

3. Datta Bhat

4. Mohan Agashe

**Options :**

485584134957. 1

485584134958. 2

485584134959. 3

485584134960. 4

**Question Number : 376 Question Id : 48558433741 Question Type : MCQ Option Shuffling : No Is Question Mandatory : No Calculator : None Response Time : N.A Think Time : N.A Minimum Instruction Time : 0**

**Correct Marks : 5 Wrong Marks : 1**

**Question Key Details :**

Key	Value
Comprehension	MCQ

A section of the big industrialist got together in 1944 and drafted a joint proposal for setting up a planned economy in the country. It was called \_\_\_\_\_

1. Industries Plan
2. New strategy of business
3. Bombay Plan
4. Revised Plan

**Options :**

485584134961. 1

485584134962. 2

485584134963. 3

485584134964. 4

**Question Number : 377 Question Id : 48558433742 Question Type : MCQ Option Shuffling : No Is Question Mandatory : No Calculator : None Response Time : N.A Think Time : N.A Minimum Instruction Time : 0**

**Correct Marks : 5 Wrong Marks : 1**

**Question Key Details :**

Key	Value
Comprehension	MCQ

NITI Ayog came into existence on which date?

1. 7 January 2015
2. 1 January 2015
3. 10 January 2015
4. 12 January 2015

**Options :**

485584134965. 1

485584134966. 2

485584134967. 3

485584134968. 4

**Question Number : 378 Question Id : 48558433743 Question Type : MCQ Option Shuffling : No Is Question Mandatory : No Calculator : None Response Time : N.A Think Time : N.A Minimum Instruction Time : 0**

**Correct Marks : 5 Wrong Marks : 1**

**Question Key Details :**

Key	Value
-----	-------

Comprehension	MCQ
---------------	-----

Given below are two statements:

**Statements I:** The second five year plan stressed on heavy Industries.

**Statements II:** It declared that socialist pattern of society was its goal.

In the light of the above statements, choose the most appropriate answer from the options given below:

1. Both statement I and statement II are correct
2. Both statement I and statement II are incorrect
3. Statement I is correct but statement II is incorrect
4. Statement I is incorrect but statement II is correct

**Options :**

- 485584134969. 1
- 485584134970. 2
- 485584134971. 3
- 485584134972. 4

**Question Number : 379 Question Id : 48558433744 Question Type : MCQ Option Shuffling : No Is Question Mandatory : No Calculator : None Response Time : N.A Think Time : N.A Minimum Instruction Time : 0**

**Correct Marks : 5 Wrong Marks : 1**

**Question Key Details :**

Key	Value
Comprehension	MCQ

Choose the name of the author of 'Economy of Permanence'

1. K. N. Raj
2. P. C. Mahalannobis
3. J. C. Kumarappa
4. Karuna Banerjee

**Options :**

- 485584134973. 1
- 485584134974. 2
- 485584134975. 3
- 485584134976. 4

**Question Number : 380 Question Id : 48558433745 Question Type : MCQ Option Shuffling : No Is Question Mandatory : No Calculator : None Response Time : N.A Think Time : N.A Minimum Instruction Time : 0**

**Correct Marks : 5 Wrong Marks : 1**

**Question Key Details :**

Key	Value
Comprehension	MCQ

In which year Britain attacked Egypt over the Sues Canal issue

1. 1955
2. 1956
3. 1957
4. 1958

**Options :**

- 485584134977. 1
- 485584134978. 2
- 485584134979. 3
- 485584134980. 4

**Question Number : 381 Question Id : 48558433746 Question Type : MCQ Option Shuffling : No Is Question Mandatory : No Calculator : None Response Time : N.A Think Time : N.A Minimum Instruction Time : 0**

**Correct Marks : 5 Wrong Marks : 1**

**Question Key Details :**

Key	Value
Comprehension	MCQ

In which Article of Indian constitution lays down some Directive Principles of state Policy on Promotion of International peace and security

1. Article 51
2. Article 50
3. Article 49
4. Article 48

**Options :**

- 485584134981. 1
- 485584134982. 2
- 485584134983. 3
- 485584134984. 4

**Question Number : 382 Question Id : 48558433747 Question Type : MCQ Option Shuffling : No Is Question Mandatory : No Calculator : None Response Time : N.A Think Time : N.A Minimum Instruction Time : 0**

**Correct Marks : 5 Wrong Marks : 1**

**Question Key Details :**

Key	Value
Comprehension	MCQ

The first summit of NAM was held in Belgrade in \_\_\_\_\_

1. January 1961
2. March 1961
3. May 1961
4. September 1961

**Options :**

- 485584134985. 1
- 485584134986. 2
- 485584134987. 3
- 485584134988. 4

**Question Number : 383 Question Id : 48558433748 Question Type : MCQ Option Shuffling : No Is Question Mandatory : No Calculator : None Response Time : N.A Think Time : N.A Minimum Instruction Time : 0**

**Correct Marks : 5 Wrong Marks : 1**

**Question Key Details :**

Key	Value
Comprehension	MCQ

Frankly-----my impression (of Zhou Enlai) was very favourable \_\_\_\_\_ the Chinese premier is, I believe a good type of man and trust worthy

Who wrote there words in letter in December 1956

1. C Rajgopalachari
2. Mahatma Gandhi
3. Sardar Patel
4. Jawahar Lal Nehru

**Options :**

- 485584134989. 1
- 485584134990. 2
- 485584134991. 3
- 485584134992. 4

**Question Number : 384 Question Id : 48558433749 Question Type : MCQ Option Shuffling : No Is Question Mandatory : No Calculator : None Response Time : N.A Think Time : N.A Minimum Instruction Time : 0**

**Correct Marks : 5 Wrong Marks : 1**

**Question Key Details :**

Key	Value
Comprehension	MCQ

The first nuclear explosion undertaken by India in which year

1. 1973
2. 1974
3. 1975
4. 1976

**Options :**

485584134993. 1  
485584134994. 2  
485584134995. 3  
485584134996. 4

**Question Number : 385 Question Id : 48558433750 Question Type : MCQ Option Shuffling : No Is Question Mandatory : No Calculator : None Response Time : N.A Think Time : N.A Minimum Instruction Time : 0**

**Correct Marks : 5 Wrong Marks : 1**

**Question Key Details :**

Key	Value
Comprehension	MCQ

Match List I with List II

LIST I		LIST II	
A.	The goal of India's Foreign Policy in the period 1950-1964	I.	Tibetan spiritual leader who crossed over to India
B.	Panchsheel	II.	Preservation of territorial integrity sovereignty and economic development
C.	Bandung Conference	III.	Five principles of peaceful co-existence
D.	Dalai Lama	IV.	Led to the establishment of NAM

Choose the correct answer from the options given below:

1. A-I, B-II, C-III, D-IV
2. A-II, B-III, C-IV, D-I
3. A-II, B-IV, C-III, D-I
4. A-I, B-III, C-II, D-IV

**Options :**

485584134997. 1  
485584134998. 2  
485584134999. 3  
485584135000. 4

**Question Number : 386 Question Id : 48558433751 Question Type : MCQ Option Shuffling : No Is Question Mandatory : No Calculator : None Response Time : N.A Think Time : N.A Minimum Instruction Time : 0**

**Correct Marks : 5 Wrong Marks : 1**

**Question Key Details :**

Key	Value
Comprehension	MCQ

Who coined the famous slogan Jai Jawan Jai Kisan

1. Jawaharlal Nehru
2. Lal Bhadur Shastri
3. Lal Bahadur Lal
4. Mahatma Gandhi

**Options :**

- 485584135001. 1
- 485584135002. 2
- 485584135003. 3
- 485584135004. 4

**Question Number : 387 Question Id : 48558433752 Question Type : MCQ Option Shuffling : No Is Question Mandatory : No Calculator : None Response Time : N.A Think Time : N.A Minimum Instruction Time : 0**

**Correct Marks : 5 Wrong Marks : 1**

**Question Key Details :**

Key	Value
Comprehension	MCQ

Who introduced mid-day meal scheme for School Children.

1. K. Kamraj
2. K.N. Raj
3. Vinoba Bhave
4. K. Nizilingappa

**Options :**

- 485584135005. 1
- 485584135006. 2
- 485584135007. 3
- 485584135008. 4

**Question Number : 388 Question Id : 48558433753 Question Type : MCQ Option Shuffling : No Is Question Mandatory : No Calculator : None Response Time : N.A Think Time : N.A Minimum Instruction Time : 0**

**Correct Marks : 5 Wrong Marks : 1**

**Question Key Details :**

Key	Value
Comprehension	MCQ



Choose the name of the President of India from 1969 to 1974

1. Neelam Sanjeeva Reddy
2. V. V. Giri
3. Zakir Hussain
4. Fakruddin Ali Ahmed

**Options :**

485584135009. 1  
485584135010. 2  
485584135011. 3  
485584135012. 4

**Question Number : 389 Question Id : 48558433754 Question Type : MCQ Option Shuffling : No Is Question Mandatory : No Calculator : None Response Time : N.A Think Time : N.A Minimum Instruction Time : 0**

**Correct Marks : 5 Wrong Marks : 1**

**Question Key Details :**

Key	Value
Comprehension	MCQ

Who formed DMK as a Political Party in 1949

1. Ram Manohar Lohia
2. C. Natrajan Ananaduri
3. Nevile Maxwell
4. Karpoori Thakur

**Options :**

485584135013. 1  
485584135014. 2  
485584135015. 3  
485584135016. 4

**Question Number : 390 Question Id : 48558433755 Question Type : MCQ Option Shuffling : No Is Question Mandatory : No Calculator : None Response Time : N.A Think Time : N.A Minimum Instruction Time : 0**

**Correct Marks : 5 Wrong Marks : 1**

**Question Key Details :**

Key	Value
Comprehension	MCQ

'Sampoorna Kranti ab nara hai, bhavi itihias hamara hai'

Above slogan is associated with which movement

1. Anti-Arrack-Movement
2. Bihar Movement
3. Gujrat Movement
4. Chipko Movement

**Options :**

485584135017. 1  
485584135018. 2  
485584135019. 3  
485584135020. 4

**Question Number : 391 Question Id : 48558433756 Question Type : MCQ Option Shuffling : No Is Question Mandatory : No Calculator : None Response Time : N.A Think Time : N.A Minimum Instruction Time : 0**

**Correct Marks : 5 Wrong Marks : 1**

**Question Key Details :**

Key	Value
Comprehension	MCQ

In May 1977, The Janta Party government appointed which commission, to inquire into several aspects of allegation of abuse of authority.

1. Sheng Commission
2. Shai Commission
3. Shah Commission
4. J.P Commission

**Options :**

485584135021. 1  
485584135022. 2  
485584135023. 3  
485584135024. 4

**Question Number : 392 Question Id : 48558433757 Question Type : MCQ Option Shuffling : No Is Question Mandatory : No Calculator : None Response Time : N.A Think Time : N.A Minimum Instruction Time : 0**

**Correct Marks : 5 Wrong Marks : 1**

**Question Key Details :**

Key	Value
Comprehension	MCQ

Who were the Deputy Prime Minister of India from 1967 to 1969

1. Devi Lal
2. Charan Singh
3. Jagjivan Ram
4. Morarji Dessai

**Options :**

485584135025. 1  
485584135026. 2  
485584135027. 3  
485584135028. 4

**Question Number : 393 Question Id : 48558433758 Question Type : MCQ Option Shuffling : No Is Question Mandatory : No Calculator : None Response Time : N.A Think Time : N.A Minimum Instruction Time : 0**

**Correct Marks : 5 Wrong Marks : 1**

**Question Key Details :**

Key	Value
Comprehension	MCQ

Dalit Panthers, a militant organisation of Dalit Youth, was formed in which state in 1972

1. Kerala
2. Maharashtra
3. Bihar
4. West Bengal

**Options :**

485584135029. 1  
485584135030. 2  
485584135031. 3  
485584135032. 4

**Question Number : 394 Question Id : 48558433759 Question Type : MCQ Option Shuffling : No Is Question Mandatory : No Calculator : None Response Time : N.A Think Time : N.A Minimum Instruction Time : 0**

**Correct Marks : 5 Wrong Marks : 1**

**Question Key Details :**

Key	Value
Comprehension	MCQ

"Our blood was spilled for this glorious city and what we got was the right to eat stories. Now, now we must explode the building that kisses the sky." Who is the author of above poem.

1. Jayant Karve
2. Eleavor Zelliot
3. Namdeo Dahasal
4. Raj Kumari Amrit Kaur

**Options :**

485584135033. 1  
485584135034. 2  
485584135035. 3  
485584135036. 4

**Question Number : 395 Question Id : 48558433760 Question Type : MCQ Option Shuffling : No Is Question Mandatory : No Calculator : None Response Time : N.A Think Time : N.A Minimum Instruction Time : 0**

**Correct Marks : 5 Wrong Marks : 1**

**Question Key Details :**

Key	Value
Comprehension	MCQ

In which year RTI bill was tabled and received presidential assent.

1. June 2005
2. July 2006
3. June 2007
4. July 2008

**Options :**

485584135037. 1  
485584135038. 2  
485584135039. 3  
485584135040. 4

**Question Number : 396 Question Id : 48558433761 Question Type : MCQ Option Shuffling : No Is Question Mandatory : No Calculator : None Response Time : N.A Think Time : N.A Minimum Instruction Time : 0**

**Correct Marks : 5 Wrong Marks : 1**

**Question Key Details :**

Key	Value
Comprehension	MCQ

Given below are two statements: one is labelled as **Assertion A** and the other is labelled as **Reason R**

**Assertion A** : Asom Gana Sangram Parishad organised themselves as a regional political party called Asom Gana Parishad

**Reason R** : It came to power in 1985 with the promise of resolving the foreign national problem as well as to build a 'Golden Assam'

In the light of the above statements, choose the **correct** answer from the options given below:

1. Both **A** and **R** are true and **R** is the correct explanation of **A**
2. Both **A** and **R** are true and **R** is **NOT** the correct explanation of **A**
3. **A** is true but **R** is false
4. **A** is false but **R** is true

**Options :**

- 485584135041. 1
- 485584135042. 2
- 485584135043. 3
- 485584135044. 4

**Question Number : 397 Question Id : 48558433762 Question Type : MCQ Option Shuffling : No Is Question Mandatory : No Calculator : None Response Time : N.A Think Time : N.A Minimum Instruction Time : 0**

**Correct Marks : 5 Wrong Marks : 1**

**Question Key Details :**

Key	Value
Comprehension	MCQ

The bomb dropped by the US on Hiroshima city was code named

1. Fat Man
2. Little Boy
3. Fat Woman
4. Little Girl

**Options :**

- 485584135045. 1
- 485584135046. 2
- 485584135047. 3
- 485584135048. 4

**Question Number : 398 Question Id : 48558433763 Question Type : MCQ Option Shuffling : No Is Question Mandatory : No Calculator : None Response Time : N.A Think Time : N.A Minimum Instruction Time : 0**

**Correct Marks : 5 Wrong Marks : 1**

**Question Key Details :**

Key	Value
Comprehension	MCQ

Name the leader who was the first Prime Minister of Ghana and founder figure of NAM.

1. Josip Broz
2. Kwame Nkrumah
3. Kwame Skrumah
4. Gamal Abdel

**Options :**

- 485584135049. 1
- 485584135050. 2
- 485584135051. 3
- 485584135052. 4

**Question Number : 399 Question Id : 48558433764 Question Type : MCQ Option Shuffling : No Is Question Mandatory : No Calculator : None Response Time : N.A Think Time : N.A Minimum Instruction Time : 0**

**Correct Marks : 5 Wrong Marks : 1**

**Question Key Details :**

Key	Value
Comprehension	MCQ

Name the founder of Bolshevik Communist Party.

1. Joseph Stalin
2. Vladimir Lenin
3. Boris Yeltsin
4. Leonid Brezhnev

**Options :**

- 485584135053. 1
- 485584135054. 2
- 485584135055. 3
- 485584135056. 4

**Question Number : 400 Question Id : 48558433765 Question Type : MCQ Option Shuffling : No Is Question Mandatory : No Calculator : None Response Time : N.A Think Time : N.A Minimum Instruction Time : 0**

**Correct Marks : 5 Wrong Marks : 1**

**Question Key Details :**

Key	Value
Comprehension	MCQ

Who was the first elected President of Russia?

1. Mikhail Gorbachev
2. Fidel Kastro
3. Boris Yeltsin
4. Joseph Stalin

**Options :**

485584135057. 1  
485584135058. 2  
485584135059. 3  
485584135060. 4

**Question Number : 401 Question Id : 48558433766 Question Type : MCQ Option Shuffling : No Is Question Mandatory : No Calculator : None Response Time : N.A Think Time : N.A Minimum Instruction Time : 0**

**Correct Marks : 5 Wrong Marks : 1**

**Question Key Details :**

Key	Value
Comprehension	MCQ

- A. On 19 March 2003, the US launched its invasion of Iraq.
- B. US has lost over 3000 military personnel in the war
- C. The ostensible purpose of the invasion was to destroy Iraq from developing weapons at mass destruction
- D. More than forty other countries joined in the US led coalition of the willing after the UN refused to give its mandate to the invasion

Choose the most appropriate answer from the options given below:

1. A, C, D only
2. A, B, C only
3. A, B, D only
4. C, D, A only

**Options :**

485584135061. 1  
485584135062. 2  
485584135063. 3  
485584135064. 4

**Question Number : 402 Question Id : 48558433767 Question Type : MCQ Option Shuffling : No Is Question Mandatory : No Calculator : None Response Time : N.A Think Time : N.A Minimum Instruction Time : 0**

**Correct Marks : 5 Wrong Marks : 1**

**Question Key Details :**

Key	Value
Comprehension	MCQ

In which year the Lisbon Treaty came in to force?

1. 2007
2. 2008
3. 2009
4. 2010

**Options :**

- 485584135065. 1
- 485584135066. 2
- 485584135067. 3
- 485584135068. 4

**Question Number : 403 Question Id : 48558433768 Question Type : MCQ Option Shuffling : No Is Question Mandatory : No Calculator : None Response Time : N.A Think Time : N.A Minimum Instruction Time : 0**

**Correct Marks : 5 Wrong Marks : 1**

**Question Key Details :**

Key	Value
Comprehension	MCQ

Bangladesh was a part of Pakistan from\_\_\_\_\_

1. 1947 to 1971
2. 1947 to 1969
3. 1948 to 1949
4. 1948 to 1969

**Options :**

- 485584135069. 1
- 485584135070. 2
- 485584135071. 3
- 485584135072. 4

**Question Number : 404 Question Id : 48558433769 Question Type : MCQ Option Shuffling : No Is Question Mandatory : No Calculator : None Response Time : N.A Think Time : N.A Minimum Instruction Time : 0**

**Correct Marks : 5 Wrong Marks : 1**

**Question Key Details :**

Key	Value
Comprehension	MCQ



In 2008, in which state the monarchy was abolished and emerged as a democratic republic?

1. Bhutan
2. Nepal
3. Bangladesh
4. Maldives

**Options :**

485584135073. 1  
485584135074. 2  
485584135075. 3  
485584135076. 4

**Question Number : 405 Question Id : 48558433770 Question Type : MCQ Option Shuffling : No Is Question Mandatory : No Calculator : None Response Time : N.A Think Time : N.A Minimum Instruction Time : 0**

**Correct Marks : 5 Wrong Marks : 1**

**Question Key Details :**

Key	Value
Comprehension	MCQ

Name the 9th Secretary-General of UN.

1. Antonio Guterres
2. Ban Ki Moon
3. Kofi A. Annan
4. U. Thart

**Options :**

485584135077. 1  
485584135078. 2  
485584135079. 3  
485584135080. 4

**Question Number : 406 Question Id : 48558433771 Question Type : MCQ Option Shuffling : No Is Question Mandatory : No Calculator : None Response Time : N.A Think Time : N.A Minimum Instruction Time : 0**

**Correct Marks : 5 Wrong Marks : 1**

**Question Key Details :**

Key	Value
Comprehension	MCQ

The world trade organisation sets the rules for....

1. Global Economy
2. Global Trade
3. Global Future
4. Global Issues

**Options :**

- 485584135081. 1
- 485584135082. 2
- 485584135083. 3
- 485584135084. 4

**Question Number : 407 Question Id : 48558433772 Question Type : MCQ Option Shuffling : No Is Question Mandatory : No Calculator : None Response Time : N.A Think Time : N.A Minimum Instruction Time : 0**

**Correct Marks : 5 Wrong Marks : 1**

**Question Key Details :**

Key	Value
Comprehension	MCQ

The Nuclear Non Proliferation Treaty of 1968 was an \_\_\_\_\_

1. Arms control treaty
2. Arms reduction treaty
3. Arms availability treaty
4. Arms for developed country

**Options :**

- 485584135085. 1
- 485584135086. 2
- 485584135087. 3
- 485584135088. 4

**Question Number : 408 Question Id : 48558433773 Question Type : MCQ Option Shuffling : No Is Question Mandatory : No Calculator : None Response Time : N.A Think Time : N.A Minimum Instruction Time : 0**

**Correct Marks : 5 Wrong Marks : 1**

**Question Key Details :**

Key	Value
Comprehension	MCQ

When was Earth Summit held in Rio-de-Janeiro?

1. June 1991
2. June 1992
3. June 1993
4. June 1994

**Options :**

- 485584135089. 1
- 485584135090. 2
- 485584135091. 3
- 485584135092. 4

**Question Number : 409 Question Id : 48558433774 Question Type : MCQ Option Shuffling : No Is Question Mandatory : No Calculator : None Response Time : N.A Think Time : N.A Minimum Instruction Time : 0**

**Correct Marks : 5 Wrong Marks : 1**

**Question Key Details :**

Key	Value
Comprehension	MCQ

India signed and ratified the 1997 Kyoto Protocol in

1. August 2001
2. August 1997
3. August 2003
4. August 2002

**Options :**

- 485584135093. 1
- 485584135094. 2
- 485584135095. 3
- 485584135096. 4

**Question Number : 410 Question Id : 48558433775 Question Type : MCQ Option Shuffling : No Is Question Mandatory : No Calculator : None Response Time : N.A Think Time : N.A Minimum Instruction Time : 0**

**Correct Marks : 5 Wrong Marks : 1**

**Question Key Details :**

Key	Value
Comprehension	MCQ

The energy Conservation Act was passed in India in which year?

1. 2000
2. 2001
3. 2002
4. 2003

**Options :**

485584135097. 1  
485584135098. 2  
485584135099. 3  
485584135100. 4

**Sub-Section Number :** 2  
**Sub-Section Id :** 4855842443  
**Question Shuffling Allowed :** No  
**Is Section Default? :** null

**Question Number : 411 Question Id : 48558433776 Question Type : MCQ Option Shuffling : No Is Question Mandatory : No Calculator : None Response Time : N.A Think Time : N.A Minimum Instruction Time : 0 Correct Marks : 5 Wrong Marks : 1**

**Question Key Details :**

Key	Value
Comprehension	Comp1

Read the paragraph given below and answer the following questions.

Shastri was the country's Prime Minister from 1964-1966. During Shastri's brief Prime Ministership, the country faced two major challenges. While India was still recovering from the economic implications of the war with China, failed monsoons, drought and serious food crisis presented a grave challenge. The country also faced a war with Pakistan in 1965. Shastri's famous slogan 'Jai Jawan Jai Kisan', symbolised the country's resolve to face both these challenges.

Shastri's Prime Ministership came to an abrupt end on 10 January 1966, when he suddenly expired in Tashkent, then in USSR and currently the capital of Uzbekistan. He was there to discuss and sign an agreement with Muhammad Ayub Khan, the then President of Pakistan, to end the war.

Lal Bahadur Shastri's Prime Ministership came to an abrupt end on \_\_\_\_\_

1. 10 January 1966
2. 10 February 1966
3. 10 January 1964
4. 10 February 1964

**Options :**

485584135101. 1  
485584135102. 2  
485584135103. 3  
485584135104. 4

**Question Number : 412 Question Id : 48558433777 Question Type : MCQ Option Shuffling : No Is Question Mandatory : No Calculator : None Response Time : N.A Think Time : N.A Minimum Instruction Time : 0**

**Correct Marks : 5 Wrong Marks : 1**

**Question Key Details :**

Key	Value
Comprehension	Comp1

Read the paragraph given below and answer the following questions.

Shastri was the country's Prime Minister from 1964-1966. During Shastri's brief Prime Ministership, the country faced two major challenges. While India was still recovering from the economic implications of the war with China, failed monsoons, drought and serious food crisis presented a grave challenge. The country also faced a war with Pakistan in 1965. Shastri's famous slogan 'Jai Jawan Jai Kisan', symbolised the country's resolve to face both these challenges.

Shastri's Prime Ministership came to an abrupt end on 10 January 1966, when he suddenly expired in Tashkent, then in USSR and currently the capital of Uzbekistan. He was there to discuss and sign an agreement with Muhammad Ayub Khan, the then President of Pakistan, to end the war.

During the Prime Ministership of Lal Bahadur Shastri, India faces a war with

1. China
2. Pakistan
3. Bhutan
4. Sri Lanka

**Options :**

- 485584135105. 1
- 485584135106. 2
- 485584135107. 3
- 485584135108. 4

**Question Number : 413 Question Id : 48558433778 Question Type : MCQ Option Shuffling : No Is Question Mandatory : No Calculator : None Response Time : N.A Think Time : N.A Minimum Instruction Time : 0**

**Correct Marks : 5 Wrong Marks : 1**

**Question Key Details :**

Key	Value
Comprehension	Comp1

Read the paragraph given below and answer the following questions.

Shastri was the country's Prime Minister from 1964-1966. During Shastri's brief Prime Ministership, the country faced two major challenges. While India was still recovering from the economic implications of the war with China, failed monsoons, drought and serious food crisis presented a grave challenge. The country also faced a war with Pakistan in 1965. Shastri's famous slogan 'Jai Jawan Jai Kisan', symbolised the country's resolve to face both these challenges.

Shastri's Prime Ministership came to an abrupt end on 10 January 1966, when he suddenly expired in Tashkent, then in USSR and currently the capital of Uzbekistan. He was there to discuss and sign an agreement with Muhammad Ayub Khan, the then President of Pakistan, to end the war.

Lal Bahadur Shastri was India's Prime Minister from:

1. 1965 - 1966
2. 1962 - 1966
3. 1964 - 1966
4. 1962 - 1966

**Options :**

- 485584135109. 1
- 485584135110. 2
- 485584135111. 3
- 485584135112. 4

**Question Number : 414 Question Id : 48558433779 Question Type : MCQ Option Shuffling : No Is Question Mandatory : No Calculator : None Response Time : N.A Think Time : N.A Minimum Instruction Time : 0**

**Correct Marks : 5 Wrong Marks : 1**

**Question Key Details :**

Key	Value
Comprehension	Comp1

Read the paragraph given below and answer the following questions.

Shastri was the country's Prime Minister from 1964-1966. During Shastri's brief Prime Ministership, the country faced two major challenges. While India was still recovering from the economic implications of the war with China, failed monsoons, drought and serious food crisis presented a grave challenge. The country also faced a war with Pakistan in 1965. Shastri's famous slogan 'Jai Jawan Jai Kisan', symbolised the country's resolve to face both these challenges.

Shastri's Prime Ministership came to an abrupt end on 10 January 1966, when he suddenly expired in Tashkent, then in USSR and currently the capital of Uzbekistan. He was there to discuss and sign an agreement with Muhammad Ayub Khan, the then President of Pakistan, to end the war.

Tashkent is the capital of which country now?

1. USSR
2. Uzbekistan
3. China
4. Pakistan

**Options :**

485584135113. 1  
485584135114. 2  
485584135115. 3  
485584135116. 4

**Question Number : 415 Question Id : 48558433780 Question Type : MCQ Option Shuffling : No Is Question Mandatory : No Calculator : None Response Time : N.A Think Time : N.A Minimum Instruction Time : 0**

**Correct Marks : 5 Wrong Marks : 1**

**Question Key Details :**

Key	Value
Comprehension	Comp1

Read the paragraph given below and answer the following questions.

Shastri was the country's Prime Minister from 1964-1966. During Shastri's brief Prime Ministership, the country faced two major challenges. While India was still recovering from the economic implications of the war with China, failed monsoons, drought and serious food crisis presented a grave challenge. The country also faced a war with Pakistan in 1965. Shastri's famous slogan 'Jai Jawan Jai Kisan', symbolised the country's resolve to face both these challenges.

Shastri's Prime Ministership came to an abrupt end on 10 January 1966, when he suddenly expired in Tashkent, then in USSR and currently the capital of Uzbekistan. He was there to discuss and sign an agreement with Muhammad Ayub Khan, the then President of Pakistan, to end the war.

Name the leader who had resigned from the position of Railway Minister accepting moral responsibility for a major railway accident.

1. K. Kamraj
2. Morarji Desai
3. Jawahar Lal Nehru
4. Lal Bahadur Shastri

**Options :**

485584135117. 1  
485584135118. 2  
485584135119. 3  
485584135120. 4

**Sub-Section Number :**

3

**Sub-Section Id :**

4855842444

**Question Shuffling Allowed :**

No

Is Section Default? :

null

Question Number : 416 Question Id : 48558433781 Question Type : MCQ Option Shuffling : No Is Question Mandatory : No Calculator : None Response Time : N.A Think Time : N.A Minimum Instruction Time : 0

Correct Marks : 5 Wrong Marks : 1

Question Key Details :

Key	Value
Comprehension	Comp2

The Indian Government is already participating in global efforts through a number of programmes. For example, India's National Auto-fuel Policy mandates cleaner fuels for vehicles. The energy Conservation Act, passed in 2001, outlines initiative to improve energy efficiency. Similarly, the Electricity Act of 2003 encourages the use of renewable energy. Recent trends in importing natural gas and encouraging the adoption of clean coal technologies show that India has been making real efforts. the Government is also keen to launch a National Mission on Biodiesel, using about 11 million hectares of land to produce biodiesel by 2011-2012. India ratified the Paris Climate Agreement on 2 October 2016. And India has one of the largest renewable energy programmes in the world.

A review of the implementation of the agreements at the Earth Summit in Rio was undertaken by India in 1997.

India feels this contravenes very spirit of UNFCCC. Neither does it seem fair to impose restrictions on India when the country's rise in per capita carbon emissions by 2030 is likely to still represent less than half the world average of 3.8 tonnes in 2000. Indian emissions are predicted to rise from 0.9 tonnes per capita in 2000 to 1.6 tonnes per capita in 2030

Reservation Act was passed in

1. 2000
2. 2001
3. 2002
4. 2003

Options :

- 485584135121. 1
- 485584135122. 2
- 485584135123. 3
- 485584135124. 4

Question Number : 417 Question Id : 48558433782 Question Type : MCQ Option Shuffling : No Is Question Mandatory : No Calculator : None Response Time : N.A Think Time : N.A Minimum Instruction Time : 0

Correct Marks : 5 Wrong Marks : 1

Question Key Details :

Key	Value
Comprehension	Comp2



The Indian Government is already participating in global efforts through a number of programmes. For example, India's National Auto-fuel Policy mandates cleaner fuels for vehicles. The energy Conservation Act, passed in 2001, outlines initiative to improve energy efficiency. Similarly, the Electricity Act of 2003 encourages the use of renewable energy. Recent trends in importing natural gas and encouraging the adoption of clean coal technologies show that India has been making real efforts. the Government is also keen to launch a National Mission on Biodiesel, using about 11 million hectares of land to produce biodiesel by 2011-2012. India ratified the Paris Climate Agreement on 2 October 2016. And India has one of the largest renewable energy programmes in the world.

A review of the implementation of the agreements at the Earth Summit in Rio was undertaken by India in 1997.

India feels this contravenes very spirit of UNFCCC. Neither does it seem fair to impose restrictions on India when the country's rise in per capita carbon emissions by 2030 is likely to still represent less than half the world average of 3.8 tonnes in 2000. Indian emissions are predicted to rise from 0.9 tonnes per capita in 2000 to 1.6 tonnes per capita in 2030

Electricity Act of 2003 encourages the uses of

1. Renewable energy
2. Non renewable energy
3. No use of col technology
4. Not importing the natural gas

**Options :**

- 485584135125. 1
- 485584135126. 2
- 485584135127. 3
- 485584135128. 4

**Question Number : 418 Question Id : 48558433783 Question Type : MCQ Option Shuffling : No Is Question Mandatory : No Calculator : None Response Time : N.A Think Time : N.A Minimum Instruction Time : 0**

**Correct Marks : 5 Wrong Marks : 1**

**Question Key Details :**

Key	Value
Comprehension	Comp2

The Indian Government is already participating in global efforts through a number of programmes. For example, India's National Auto-fuel Policy mandates cleaner fuels for vehicles. The energy Conservation Act, passed in 2001, outlines initiative to improve energy efficiency. Similarly, the Electricity Act of 2003 encourages the use of renewable energy. Recent trends in importing natural gas and encouraging the adoption of clean coal technologies show that India has been making real efforts. the Government is also keen to launch a National Mission on Biodiesel, using about 11 million hectares of land to produce biodiesel by 2011-2012. India ratified the Paris Climate Agreement on 2 October 2016. And India has one of the largest renewable energy programmes in the world.

A review of the implementation of the agreements at the Earth Summit in Rio was undertaken by India in 1997.

India feels this contravenes very spirit of UNFCCC. Neither does it seem fair to impose restrictions on India when the country's rise in per capita carbon emissions by 2030 is likely to still represent less than half the world average of 3.8 tonnes in 2000. Indian emissions are predicted to rise from 0.9 tonnes per capita in 2000 to 1.6 tonnes per capita in 2030

In which year India ratified the Paris Climate Agreement?

1. 2014
2. 2015
3. 2016
4. 2017

**Options :**

- 485584135129. 1
- 485584135130. 2
- 485584135131. 3
- 485584135132. 4

**Question Number : 419 Question Id : 48558433784 Question Type : MCQ Option Shuffling : No Is Question Mandatory : No Calculator : None Response Time : N.A Think Time : N.A Minimum Instruction Time : 0**

**Correct Marks : 5 Wrong Marks : 1**

**Question Key Details :**

Key	Value
Comprehension	Comp2

The Indian Government is already participating in global efforts through a number of programmes. For example, India's National Auto-fuel Policy mandates cleaner fuels for vehicles. The energy Conservation Act, passed in 2001, outlines initiative to improve energy efficiency. Similarly, the Electricity Act of 2003 encourages the use of renewable energy. Recent trends in importing natural gas and encouraging the adoption of clean coal technologies show that India has been making real efforts. the Government is also keen to launch a National Mission on Biodiesel, using about 11 million hectares of land to produce biodiesel by 2011-2012. India ratified the Paris Climate Agreement on 2 October 2016. And India has one of the largest renewable energy programmes in the world.

A review of the implementation of the agreements at the Earth Summit in Rio was undertaken by India in 1997.

India feels this contravenes very spirit of UNFCCC. Neither does it seem fair to impose restrictions on India when the country's rise in per capita carbon emissions by 2030 is likely to still represent less than half the world average of 3.8 tonnes in 2000. Indian emissions are predicted to rise from 0.9 tonnes per capita in 2000 to 1.6 tonnes per capita in 2030

India emission are predicted to rise 1.6 tonnes per capital in \_\_\_\_\_

1. 2025
2. 2030
3. 2035
4. 2040

**Options :**

- 485584135133. 1
- 485584135134. 2
- 485584135135. 3
- 485584135136. 4

**Question Number : 420 Question Id : 48558433785 Question Type : MCQ Option Shuffling : No Is Question Mandatory : No Calculator : None Response Time : N.A Think Time : N.A Minimum Instruction Time : 0**

**Correct Marks : 5 Wrong Marks : 1**

**Question Key Details :**

Key	Value
Comprehension	Comp2

The Indian Government is already participating in global efforts through a number of programmes. For example, India's National Auto-fuel Policy mandates cleaner fuels for vehicles. The energy Conservation Act, passed in 2001, outlines initiative to improve energy efficiency. Similarly, the Electricity Act of 2003 encourages the use of renewable energy. Recent trends in importing natural gas and encouraging the adoption of clean coal technologies show that India has been making real efforts. the Government is also keen to launch a National Mission on Biodiesel, using about 11 million hectares of land to produce biodiesel by 2011-2012. India ratified the Paris Climate Agreement on 2 October 2016. And India has one of the largest renewable energy programmes in the world.

A review of the implementation of the agreements at the Earth Summit in Rio was undertaken by India in 1997.

India feels this contravenes very spirit of UNFCCC. Neither does it seem fair to impose restrictions on India when the country's rise in per capita carbon emissions by 2030 is likely to still represent less than half the world average of 3.8 tonnes in 2000. Indian emissions are predicted to rise from 0.9 tonnes per capita in 2000 to 1.6 tonnes per capita in 2030

Write the full form of UNFCCC

1. United Nations Framework Convention on Climate Change
2. Union Nations Framework Connection on Climate Change
3. United National Framework Connection on Climate Change
4. United Nations Forum Convention on Climate Change

**Options :**

- 485584135137. 1
- 485584135138. 2
- 485584135139. 3
- 485584135140. 4

## Sociology

<b>Group Number :</b>	12
<b>Group Id :</b>	485584750
<b>Group Maximum Duration :</b>	45
<b>Group Minimum Duration :</b>	45
<b>Show Attended Group? :</b>	No
<b>Edit Attended Group? :</b>	No
<b>Break time :</b>	0
<b>Group Marks :</b>	200
<b>Is this Group for Examiner? :</b>	No
<b>Examiner permission :</b>	Cant View
<b>Show Progress Bar? :</b>	No

## Sociology

<b>Section Id :</b>	485584868
<b>Section Number :</b>	1
<b>Section type :</b>	Online

**Mandatory or Optional :** Mandatory  
**Number of Questions :** 50  
**Number of Questions to be attempted :** 40  
**Section Marks :** 200  
**Enable Mark as Answered Mark for Review and Clear Response :** Yes  
**Maximum Instruction Time :** 0  
**Sub-Section Number :** 1  
**Sub-Section Id :** 4855842445  
**Question Shuffling Allowed :** Yes  
**Is Section Default? :** null

**Question Number : 421 Question Id : 48558433786 Question Type : MCQ Option Shuffling : No Is Question Mandatory : No Calculator : None Response Time : N.A Think Time : N.A Minimum Instruction Time : 0**

**Correct Marks : 5 Wrong Marks : 1**

**Question Key Details :**

Key	Value
Comprehension	MCQ

What is the basis of creation of the new states of Chattisgarh, Uttarakhand and Jharkhand?

1. Ethnicity
2. Administrative
3. Linguistic
4. Special Status

**Options :**

485584135141. 1  
485584135142. 2  
485584135143. 3  
485584135144. 4

**Question Number : 422 Question Id : 48558433787 Question Type : MCQ Option Shuffling : No Is Question Mandatory : No Calculator : None Response Time : N.A Think Time : N.A Minimum Instruction Time : 0**

**Correct Marks : 5 Wrong Marks : 1**

**Question Key Details :**

Key	Value
Comprehension	MCQ

Policies which are aimed at persuading, encouraging or forcing all citizens to adopt a uniform set of cultural values and norms is called

1. Pluralist
2. Nationalist
3. Assimilationist
4. Multiculturalist

**Options :**

485584135145. 1  
485584135146. 2

485584135147. 3  
485584135148. 4

**Question Number : 423 Question Id : 48558433788 Question Type : MCQ Option Shuffling : No Is Question Mandatory : No Calculator : None Response Time : N.A Think Time : N.A Minimum Instruction Time : 0**

**Correct Marks : 5 Wrong Marks : 1**

**Question Key Details :**

Key	Value
Comprehension	MCQ

According to western context, what does secularism actually denote?

1. Religious Chauvinism
2. Separation of religious and political authority
3. All religions are same and must
4. Keeping away the hostility between religions

**Options :**

485584135149. 1  
485584135150. 2  
485584135151. 3  
485584135152. 4

**Question Number : 424 Question Id : 48558433789 Question Type : MCQ Option Shuffling : No Is Question Mandatory : No Calculator : None Response Time : N.A Think Time : N.A Minimum Instruction Time : 0**

**Correct Marks : 5 Wrong Marks : 1**

**Question Key Details :**

Key	Value
Comprehension	MCQ

Who argued that the nature of urban impact varies according to the kind relation a village has with a city or town?

1. M.S.A. Rao
2. Emile Durkheim
3. M.N. Srinivas
4. Louis Wirth

**Options :**

485584135153. 1  
485584135154. 2  
485584135155. 3  
485584135156. 4

**Question Number : 425 Question Id : 48558433790 Question Type : MCQ Option Shuffling : No Is Question Mandatory : No Calculator : None Response Time : N.A Think Time : N.A Minimum Instruction Time : 0**

**Correct Marks : 5 Wrong Marks : 1**

**Question Key Details :**

Key	Value
-----	-------

The different ways in which British colonialism lives on in contemporary India:

- A. Learning Indian classical music and dance
- B. Eating using fork and spoon
- C. Wearing skirts and trousers
- D. Online education
- E. Driving on the left side of the road

Choose the correct answer from the options given below:

- 1. B, D, E only
- 2. B, C, E only
- 3. A, B, D only
- 4. A, C, D only

**Options :**

- 485584135157. 1
- 485584135158. 2
- 485584135159. 3
- 485584135160. 4

**Question Number : 426 Question Id : 48558433791 Question Type : MCQ Option Shuffling : No Is Question Mandatory : No Calculator : None Response Time : N.A Think Time : N.A Minimum Instruction Time : 0**

**Correct Marks : 5 Wrong Marks : 1**

**Question Key Details :**

Key	Value
Comprehension	MCQ

High rates of infant mortality and maternal mortality are the result of which factors?

- 1. Poverty and development
- 2. Poverty and illiteracy
- 3. Life expectancy and poverty
- 4. Literacy and development

**Options :**

- 485584135161. 1
- 485584135162. 2
- 485584135163. 3
- 485584135164. 4

**Question Number : 427 Question Id : 48558433792 Question Type : MCQ Option Shuffling : No Is Question Mandatory : No Calculator : None Response Time : N.A Think Time : N.A Minimum Instruction Time : 0**

**Correct Marks : 5 Wrong Marks : 1**

**Question Key Details :**

Key	Value
Comprehension	MCQ

The NGO, Mahila Samakhya, adopted an innovative method to communicate about the Panchayat Raj system to the women in villages.

1. Documentary
2. Speech
3. Phad
4. Focus group discussion

**Options :**

- 485584135165. 1
- 485584135166. 2
- 485584135167. 3
- 485584135168. 4

**Question Number : 428 Question Id : 48558433793 Question Type : MCQ Option Shuffling : No Is Question Mandatory : No Calculator : None Response Time : N.A Think Time : N.A Minimum Instruction Time : 0**

**Correct Marks : 5 Wrong Marks : 1**

**Question Key Details :**

Key	Value
Comprehension	MCQ

India has which kind of democracy?

1. Direct democracy
2. Representative democracy
3. Indirect democracy
4. Non-representative democracy

**Options :**

- 485584135169. 1
- 485584135170. 2
- 485584135171. 3
- 485584135172. 4

**Question Number : 429 Question Id : 48558433794 Question Type : MCQ Option Shuffling : No Is Question Mandatory : No Calculator : None Response Time : N.A Think Time : N.A Minimum Instruction Time : 0**

**Correct Marks : 5 Wrong Marks : 1**

**Question Key Details :**

Key	Value
Comprehension	MCQ



Opinions that are not fact based can be understood as

1. Prejudice
2. Untouchability
3. Inclusion
4. Exclusion

**Options :**

485584135173. 1  
485584135174. 2  
485584135175. 3  
485584135176. 4

**Question Number : 430 Question Id : 48558433795 Question Type : MCQ Option Shuffling : No Is Question Mandatory : No Calculator : None Response Time : N.A Think Time : N.A Minimum Instruction Time : 0**

**Correct Marks : 5 Wrong Marks : 1**

**Question Key Details :**

Key	Value
Comprehension	MCQ

Match the newspapers in List I with the language in List II

LIST I		LIST II	
A.	Kesari	I.	Malayali
B.	Mathrubhumi	II.	Hindi
C.	Sambad-Kaumudi	III.	Bengali
D.	Amar Ujala	IV.	Marathi

Choose the correct answer from the options given below:

1. A-I, B-II, C-III, D-IV
2. A-IV, B-I, C-III, D-II
3. A-IV, B-II, C-I, D-III
4. A-IV, B-II, C-III, D-I

**Options :**

485584135177. 1  
485584135178. 2  
485584135179. 3  
485584135180. 4

**Question Number : 431 Question Id : 48558433796 Question Type : MCQ Option Shuffling : No Is Question Mandatory : No Calculator : None Response Time : N.A Think Time : N.A Minimum Instruction Time : 0**

**Correct Marks : 5 Wrong Marks : 1**

**Question Key Details :**

Key	Value
Comprehension	MCQ

Why is Demographic Dividend considered temporary?

1. Larger pool of working age people will gradually turn into non-working old age group
2. Larger pool of non-working people will eventually turn into working people
3. Eventually the number of non-working people will be equal to that of working people
4. Larger pool of non-working people will be employed due to Government policies

**Options :**

- 485584135181. 1
- 485584135182. 2
- 485584135183. 3
- 485584135184. 4

**Question Number : 432 Question Id : 48558433797 Question Type : MCQ Option Shuffling : No Is Question Mandatory : No Calculator : None Response Time : N.A Think Time : N.A Minimum Instruction Time : 0**

**Correct Marks : 5 Wrong Marks : 1**

**Question Key Details :**

Key	Value
Comprehension	MCQ

Identify the three villages that were initially brought together to establish the trading post on river Hooghly by the English in 17th century.

1. Kolikata, Maidan, Fort William
2. Sutanuti, Gobindapur, Fort William
3. Sutanuti, Kolikata, Fort William
4. Kolikata, Sutanuti, Gobindapur

**Options :**

- 485584135185. 1
- 485584135186. 2
- 485584135187. 3
- 485584135188. 4

**Question Number : 433 Question Id : 48558433798 Question Type : MCQ Option Shuffling : No Is Question Mandatory : No Calculator : None Response Time : N.A Think Time : N.A Minimum Instruction Time : 0**

**Correct Marks : 5 Wrong Marks : 1**

**Question Key Details :**

Key	Value
Comprehension	MCQ

Who believed that famines are the result of "failure of entitlements"?

1. Karl Marx
2. Amartya Sen
3. Malthus
4. Emile Durkheim

**Options :**

- 485584135189. 1
- 485584135190. 2
- 485584135191. 3
- 485584135192. 4

**Question Number : 434 Question Id : 48558433799 Question Type : MCQ Option Shuffling : No Is Question Mandatory : No Calculator : None Response Time : N.A Think Time : N.A Minimum Instruction Time : 0**

**Correct Marks : 5 Wrong Marks : 1**

**Question Key Details :**

Key	Value
Comprehension	MCQ

When did Right to Information Act came into force?

1. October 13, 2005
2. October 13, 2006
3. June 15, 2005
4. June 15, 2006

**Options :**

- 485584135193. 1
- 485584135194. 2
- 485584135195. 3
- 485584135196. 4

**Question Number : 435 Question Id : 48558433800 Question Type : MCQ Option Shuffling : No Is Question Mandatory : No Calculator : None Response Time : N.A Think Time : N.A Minimum Instruction Time : 0**

**Correct Marks : 5 Wrong Marks : 1**

**Question Key Details :**

Key	Value
Comprehension	MCQ

Identify the key characteristic of social stratification from the list given below:

- A. It is social and not individual in character
- B. Social stratification persists through ideologies and practices
- C. It persists over generations
- D. It is natural
- E. It is not natural

Choose the correct answer from the options given below:

- 1. A, B, C only
- 2. B, C, E only
- 3. D, C, E only
- 4. A, D, E only

**Options :**

- 485584135197. 1
- 485584135198. 2
- 485584135199. 3
- 485584135200. 4

**Question Number : 436 Question Id : 48558433801 Question Type : MCQ Option Shuffling : No Is Question Mandatory : No Calculator : None Response Time : N.A Think Time : N.A Minimum Instruction Time : 0**

**Correct Marks : 5 Wrong Marks : 1**

**Question Key Details :**

Key	Value
Comprehension	MCQ

What does population pyramid show?

- 1. Age, Birth rate, Growth
- 2. Age, Gender, Growth
- 3. Age, Birth rate, Life expectancy
- 4. Birth rate, Gender, Life expectancy

**Options :**

- 485584135201. 1
- 485584135202. 2
- 485584135203. 3
- 485584135204. 4

**Question Number : 437 Question Id : 48558433802 Question Type : MCQ Option Shuffling : No Is Question Mandatory : No Calculator : None Response Time : N.A Think Time : N.A Minimum Instruction Time : 0**

**Correct Marks : 5 Wrong Marks : 1**

**Question Key Details :**

Key	Value
Comprehension	MCQ

Match the books in List I with the authors in List II

LIST I		LIST II	
A.	Stree Purush Tulana	I.	Daya Pawar
B.	The city	II.	Begum Rokeya
C.	Analogy of Religion	III.	Tarabai Shinde
D.	Sultana's Dream	IV.	Bishop Joseph Butler

Choose the correct answer from the options given below:

1. A-I, B-II, C-III, D-IV
2. A-IV, B-I, C-III, D-II
3. A-III, B-I, C-IV, D-II
4. A-IV, B-II, C-III, D-I

**Options :**

485584135205. 1  
485584135206. 2  
485584135207. 3  
485584135208. 4

**Question Number : 438 Question Id : 48558433803 Question Type : MCQ Option Shuffling : No Is Question Mandatory : No Calculator : None Response Time : N.A Think Time : N.A Minimum Instruction Time : 0**

**Correct Marks : 5 Wrong Marks : 1**

**Question Key Details :**

Key	Value
Comprehension	MCQ

The working age group considered for measuring dependency ratio is:

1. 15-64 years
2. 16-64 years
3. 18-70 years
4. 20-50 years

**Options :**

485584135209. 1  
485584135210. 2  
485584135211. 3  
485584135212. 4

**Question Number : 439 Question Id : 48558433804 Question Type : MCQ Option Shuffling : No Is Question Mandatory : No Calculator : None Response Time : N.A Think Time : N.A Minimum Instruction Time : 0**

**Correct Marks : 5 Wrong Marks : 1**

**Question Key Details :**

Key	Value
Comprehension	MCQ

In Madhopur village, 77 out of 298 households work and live in the cities of Bombay and Calcutta. What does the example reflect?

1. Industrialisation
2. Urbanisation
3. Migration
4. Ghettoization

**Options :**

485584135213. 1  
485584135214. 2  
485584135215. 3  
485584135216. 4

**Question Number : 440 Question Id : 48558433805 Question Type : MCQ Option Shuffling : No Is Question Mandatory : No Calculator : None Response Time : N.A Think Time : N.A Minimum Instruction Time : 0**

**Correct Marks : 5 Wrong Marks : 1**

**Question Key Details :**

Key	Value
Comprehension	MCQ

Common features of caste system include

- A. equalities within the same caste members
- B. social mobility
- C. occupational link
- D. subdivisions
- E. hierarchical arrangements

Choose the correct answer from the options given below:

1. A, B, C, D only
2. A, B, D, E only
3. B, C, D, E only
4. A, C, D, E only

**Options :**

485584135217. 1  
485584135218. 2  
485584135219. 3  
485584135220. 4

**Question Number : 441 Question Id : 48558433806 Question Type : MCQ Option Shuffling : No Is Question Mandatory : No Calculator : None Response Time : N.A Think Time : N.A Minimum Instruction Time : 0**

**Correct Marks : 5 Wrong Marks : 1**

**Question Key Details :**

Key	Value
Comprehension	MCQ

Match the concept in List I with the example in List II

LIST I Concept		LIST II Example	
A.	Weekly market	I.	Use of branded cars
B.	Status symbol	II.	BPO
C.	Commodification	III.	Dhorai
D.	Globalisation	IV.	Sale of kidney to rich patients

Choose the correct answer from the options given below:

1. A-III, B-II, C-I, D-IV
2. A-III, B-IV, C-II, D-I
3. A-III, B-I, C-IV, D-II
4. A-II, B-I, C-III, D-IV

**Options :**

485584135221. 1  
485584135222. 2  
485584135223. 3  
485584135224. 4

**Question Number : 442 Question Id : 48558433807 Question Type : MCQ Option Shuffling : No Is Question Mandatory : No Calculator : None Response Time : N.A Think Time : N.A Minimum Instruction Time : 0**

**Correct Marks : 5 Wrong Marks : 1**

**Question Key Details :**

Key	Value
Comprehension	MCQ

Arrange the states having lowest to highest child sex-ratio as per 2011 Census:

- A. Himachal Pradesh
- B. Kerala
- C. Bihar
- D. Haryana
- E. Rajasthan

Choose the correct answer from the options given below:

1. D, E, A, C, B
2. C, D, A, B, E
3. B, A, D, E, C
4. C, A, D, E, B

**Options :**

485584135225. 1  
485584135226. 2  
485584135227. 3

**Question Number : 443 Question Id : 48558433808 Question Type : MCQ Option Shuffling : No Is Question Mandatory : No Calculator : None Response Time : N.A Think Time : N.A Minimum Instruction Time : 0**

**Correct Marks : 5 Wrong Marks : 1**

**Question Key Details :**

Key	Value
Comprehension	MCQ

Arrange the following groups in an ascending order in terms of their percentage share in the Bidi industry:

- A. Manufacturer
- B. Worker
- C. Contractor
- D. Distributor

Choose the correct answer from the options given below:

- 1. A, C, B, D
- 2. B, C, D, A
- 3. A, B, C, D
- 4. B, D, C, A

**Options :**

- 485584135229. 1
- 485584135230. 2
- 485584135231. 3
- 485584135232. 4

**Question Number : 444 Question Id : 48558433809 Question Type : MCQ Option Shuffling : No Is Question Mandatory : No Calculator : None Response Time : N.A Think Time : N.A Minimum Instruction Time : 0**

**Correct Marks : 5 Wrong Marks : 1**

**Question Key Details :**

Key	Value
Comprehension	MCQ

For migrant workers Jan Breman has used the term:

- 1. Footloose labour
- 2. Loose labour
- 3. Mobile labour
- 4. Migratory labour

**Options :**

- 485584135233. 1
- 485584135234. 2
- 485584135235. 3
- 485584135236. 4



**Question Number : 445 Question Id : 48558433810 Question Type : MCQ Option Shuffling : No Is Question Mandatory : No Calculator : None Response Time : N.A Think Time : N.A Minimum Instruction Time : 0**

**Correct Marks : 5 Wrong Marks : 1**

**Question Key Details :**

Key	Value
Comprehension	MCQ

Identify the permanent traits of tribes from the list provided below:

- A. Language
- B. Mode of livelihood
- C. Region
- D. Extent of incorporation into Hindu society
- E. Physical characteristics

Choose the correct answer from the options given below:

- 1. A, C, E, only
- 2. B, D, E, only
- 3. A, B, C, only
- 4. B, C, E, only

**Options :**

- 485584135237. 1
- 485584135238. 2
- 485584135239. 3
- 485584135240. 4

**Question Number : 446 Question Id : 48558433811 Question Type : MCQ Option Shuffling : No Is Question Mandatory : No Calculator : None Response Time : N.A Think Time : N.A Minimum Instruction Time : 0**

**Correct Marks : 5 Wrong Marks : 1**

**Question Key Details :**

Key	Value
Comprehension	MCQ

Arrange the four-fold division of society into the varna system:

- A. Vaisya
- B. Brahmin
- C. Sudra
- D. Kshatriya

Choose the correct answer from the options given below:

- 1. B, D, A, C
- 2. B, A, C, D
- 3. A, B, C, D
- 4. C, B, D, A

**Options :**

- 485584135241. 1
- 485584135242. 2
- 485584135243. 3
- 485584135244. 4

**Question Number : 447 Question Id : 48558433812 Question Type : MCQ Option Shuffling : No Is Question Mandatory : No Calculator : None Response Time : N.A Think Time : N.A Minimum Instruction Time : 0**

**Correct Marks : 5 Wrong Marks : 1**

**Question Key Details :**

Key	Value
Comprehension	MCQ

Impact of urbanization on peripheral villages:

- A. People build fashionable houses
- B. Pressure on resources
- C. Conflicts between migrants and villagers
- D. Out migration
- E. Uprooting villagers from their land

Choose the correct answer from the options given below:

- 1. A, C, D, E, only
- 2. A, B, C, D only
- 3. A, B, C, E only
- 4. B, C, D, E only

**Options :**

- 485584135245. 1
- 485584135246. 2
- 485584135247. 3
- 485584135248. 4

**Question Number : 448 Question Id : 48558433813 Question Type : MCQ Option Shuffling : No Is Question Mandatory : No Calculator : None Response Time : N.A Think Time : N.A Minimum Instruction Time : 0**

**Correct Marks : 5 Wrong Marks : 1**

**Question Key Details :**

Key	Value
Comprehension	MCQ

The situation where people do not enjoy work and see it as something they have to do only for livelihood is described as:

- 1. Exploitation
- 2. Alienation
- 3. Marginalization
- 4. Discrimination

**Options :**

485584135249. 1  
485584135250. 2  
485584135251. 3  
485584135252. 4

**Question Number : 449 Question Id : 48558433814 Question Type : MCQ Option Shuffling : No Is Question Mandatory : No Calculator : None Response Time : N.A Think Time : N.A Minimum Instruction Time : 0**

**Correct Marks : 5 Wrong Marks : 1**

**Question Key Details :**

Key	Value
Comprehension	MCQ

From the choices given below choose the scheme associated with providing help to the farmers.

1. Beti bachao, Beti padhao
2. Green revolution
3. Pradhan Mantri Fasal Bima Yojana
4. Land Ceiling Act

**Options :**

485584135253. 1  
485584135254. 2  
485584135255. 3  
485584135256. 4

**Question Number : 450 Question Id : 48558433815 Question Type : MCQ Option Shuffling : No Is Question Mandatory : No Calculator : None Response Time : N.A Think Time : N.A Minimum Instruction Time : 0**

**Correct Marks : 5 Wrong Marks : 1**

**Question Key Details :**

Key	Value
Comprehension	MCQ

Match the concept in List I with the explanation in List II

LIST I Concept		LIST II Explanation	
A.	Preventive checks	I.	Number of females per 1000 males in a given area at a specified time period
B.	Positive checks	II.	Estimated number of years that an average person is expected to survive
C.	Life expectancy	III.	Voluntary action to reduce population (like postponing marriage)
D.	Sex-ratio	IV.	Involuntary events to reduce population (like famine)

Choose the correct answer from the options given below:

1. A-IV, B-III, C-II, D-I
2. A-III, B-IV, C-II, D-I
3. A-IV, B-II, C-III, D-I
4. A-I, B-II, C-III, D-IV

**Options :**

485584135257. 1  
 485584135258. 2  
 485584135259. 3  
 485584135260. 4

**Question Number : 451 Question Id : 48558433816 Question Type : MCQ Option Shuffling : No Is Question Mandatory : No Calculator : None Response Time : N.A Think Time : N.A Minimum Instruction Time : 0**

**Correct Marks : 5 Wrong Marks : 1**

**Question Key Details :**

Key	Value
Comprehension	MCQ

The work culture where workers work for extended hours beyond the regular time either to complete the project or please the boss is called:

1. Flexi-time
2. Night out
3. Time slavery
4. Work pressure

**Options :**

485584135261. 1  
 485584135262. 2  
 485584135263. 3  
 485584135264. 4

**Question Number : 452 Question Id : 48558433817 Question Type : MCQ Option Shuffling : No Is Question Mandatory : No Calculator : None Response Time : N.A Think Time : N.A Minimum Instruction Time : 0**

**Correct Marks : 5 Wrong Marks : 1**

**Question Key Details :**

Key	Value
Comprehension	MCQ

Recent developments in Varanasi and its promotion in media made the city an attractive tourist spot. With which theory can this example be associated with?

1. Corporate culture
2. Culture of consumption
3. Globalization of culture
4. Conscious consumption

**Options :**

- 485584135265. 1
- 485584135266. 2
- 485584135267. 3
- 485584135268. 4

**Question Number : 453 Question Id : 48558433818 Question Type : MCQ Option Shuffling : No Is Question Mandatory : No Calculator : None Response Time : N.A Think Time : N.A Minimum Instruction Time : 0**

**Correct Marks : 5 Wrong Marks : 1**

**Question Key Details :**

Key	Value
Comprehension	MCQ

Arrange in a chronological manner from earliest to latest developments:

- A. SRC mandated redrawing of the map of India on linguistic lines
- B. Many feared that states based on language will hasten further division of India
- C. Indian National Congress was constituted on linguistic lines
- D. India became independent but was partitioned along religious lines
- E. Creation of Andhra Pradesh after the death of Potti Sriramulu

Choose the correct answer from the options given below:

1. C, D, B, E, A
2. A, B, D, C, B
3. A, B, D, C, E
4. D, C, B, A, E

**Options :**

- 485584135269. 1
- 485584135270. 2
- 485584135271. 3
- 485584135272. 4

Question Number : 454 Question Id : 48558433819 Question Type : MCQ Option Shuffling : No Is Question Mandatory : No Calculator : None Response Time : N.A Think Time : N.A Minimum Instruction Time : 0

Correct Marks : 5 Wrong Marks : 1

Question Key Details :

Key	Value
Comprehension	MCQ

A movement that is aimed in bringing change in the personal consciousness and actions of individual members is called:

1. Reformist social movement
2. Revolutionary social movement
3. Historical social movement
4. Redemptive social movement

Options :

- 485584135273. 1
- 485584135274. 2
- 485584135275. 3
- 485584135276. 4

Question Number : 455 Question Id : 48558433820 Question Type : MCQ Option Shuffling : No Is Question Mandatory : No Calculator : None Response Time : N.A Think Time : N.A Minimum Instruction Time : 0

Correct Marks : 5 Wrong Marks : 1

Question Key Details :

Key	Value
Comprehension	MCQ

Match the laws in List I with the year adopted in List II

LIST I Laws/Acts		LIST II Year of Adoption/Passing	
A.	Caste Disabilities Removal Act	I.	1989
B.	Constitution Amendment (93rd) Act	II.	1950
C.	(Article 17) Abolishing of Untouchability	III.	1850
D.	Prevention of Atrocities Act	IV.	2006

Choose the correct answer from the options given below:

1. A-I, B-II, C-III, D-IV
2. A-IV, B-III, C-II, D-I
3. A-III, B-IV, C-II, D-I
4. A-IV, B-II, C-I, D-III

Options :

- 485584135277. 1

485584135278. 2  
485584135279. 3  
485584135280. 4

**Question Number : 456 Question Id : 48558433821 Question Type : MCQ Option Shuffling : No Is Question Mandatory : No Calculator : None Response Time : N.A Think Time : N.A Minimum Instruction Time : 0**

**Correct Marks : 5 Wrong Marks : 1**

**Question Key Details :**

Key	Value
Comprehension	MCQ

The floods caused by the unusually heavy monsoon in the Alaknanda valley marked a turning point in the ecological history of the region. What is being referred to here?

1. Budhan movement
2. Chipko movement
3. Swacch Bharat Mission
4. Namami Gange Project

**Options :**

485584135281. 1  
485584135282. 2  
485584135283. 3  
485584135284. 4

**Question Number : 457 Question Id : 48558433822 Question Type : MCQ Option Shuffling : No Is Question Mandatory : No Calculator : None Response Time : N.A Think Time : N.A Minimum Instruction Time : 0**

**Correct Marks : 5 Wrong Marks : 1**

**Question Key Details :**

Key	Value
Comprehension	MCQ

Who is associated with the anti-caste movement in 19th century?

1. Mahatma Gandhi
2. Jyotiba Phule
3. Raja Rammohan Roy
4. Birsa Munda

**Options :**

485584135285. 1  
485584135286. 2  
485584135287. 3  
485584135288. 4

**Question Number : 458 Question Id : 48558433823 Question Type : MCQ Option Shuffling : No Is Question Mandatory : No Calculator : None Response Time : N.A Think Time : N.A Minimum Instruction Time : 0**

**Correct Marks : 5 Wrong Marks : 1**

**Question Key Details :**

Key	Value
Comprehension	MCQ

Arrange the following newspapers in order of their year of publication from the earliest to the latest.

- A. The Madras Mail
- B. The Statesman
- C. The Times of India
- D. The Pioneer
- E. The Civil and Military Gazettee

Choose the correct answer from the options given below:

1. C, D, A, B, E
2. B, D, C, A, E
3. A, B, E, D, C
4. A, C, B, E, D

**Options :**

485584135289. 1  
485584135290. 2  
485584135291. 3  
485584135292. 4

**Question Number : 459 Question Id : 48558433824 Question Type : MCQ Option Shuffling : No Is Question Mandatory : No Calculator : None Response Time : N.A Think Time : N.A Minimum Instruction Time : 0**

**Correct Marks : 5 Wrong Marks : 1**

**Question Key Details :**

Key	Value
Comprehension	MCQ

One of the key issues that bind the tribal movement across India.

1. Over exploitation
2. Language
3. Alienation from forest lands
4. Ethnicity

**Options :**

485584135293. 1  
485584135294. 2  
485584135295. 3  
485584135296. 4

**Question Number : 460 Question Id : 48558433825 Question Type : MCQ Option Shuffling : No Is Question Mandatory : No Calculator : None Response Time : N.A Think Time : N.A Minimum Instruction Time : 0**

**Correct Marks : 5 Wrong Marks : 1**

**Question Key Details :**

Key	Value
-----	-------



What was the common demand among the jute workers of Kolkata, cotton mill workers of Buckingham and Ahmedabad?

1. Better working conditions
2. 25% increase of wages
3. 50% increase of wages
4. Less working hours

**Options :**

485584135297. 1  
 485584135298. 2  
 485584135299. 3  
 485584135300. 4

**Sub-Section Number :**

2

**Sub-Section Id :**

4855842446

**Question Shuffling Allowed :**

No

**Is Section Default? :**

null

**Question Number : 461 Question Id : 48558433826 Question Type : MCQ Option Shuffling : No Is Question Mandatory : No Calculator : None Response Time : N.A Think Time : N.A Minimum Instruction Time : 0**

**Correct Marks : 5 Wrong Marks : 1**

**Question Key Details :**

Key	Value
Comprehension	Comp1

Read the passage and answer the questions:

Regionalism in India is rooted in India's diversity of languages, cultures, tribes and religions. It is also encouraged by the geographical concentration of these identity workers in particular regions and fuelled by a sense of regional deprivation. Indian federalism has been a means of accommodating these regional sentiments.

After independence, initially the Indian state continued with the British-Indian arrangement, dividing India into large provinces, also called 'Presidencies'. These were large multi-ethnic and multilingual provincial states constituting the major political-administrative units of a semi-federal state called the Union of India. Languages coupled with regional and tribal identity and not religion has therefore provided the most powerful instrument for the formation of ethno-rational identity in India.

The three major factors for the formation of ethno-rational identity in India are:

1. Linguistic, tribal and religious identity
2. Linguistic, caste and tribal identity
3. Regional, linguistic and tribal identity
4. Religious, linguistic and caste identity

**Options :**

- 485584135301. 1
- 485584135302. 2
- 485584135303. 3
- 485584135304. 4

**Question Number : 462 Question Id : 48558433827 Question Type : MCQ Option Shuffling : No Is Question Mandatory : No Calculator : None Response Time : N.A Think Time : N.A Minimum Instruction Time : 0**

**Correct Marks : 5 Wrong Marks : 1**

**Question Key Details :**

Key	Value
Comprehension	Comp1

Read the passage and answer the questions:

Regionalism in India is rooted in India's diversity of languages, cultures, tribes and religions. It is also encouraged by the geographical concentration of these identity workers in particular regions and fuelled by a sense of regional deprivation. Indian federalism has been a means of accommodating these regional sentiments.

After independence, initially the Indian state continued with the British-Indian arrangement, dividing India into large provinces, also called 'Presidencies'. These were large multi-ethnic and multilingual provincial states constituting the major political-administrative units of a semi-federal state called the Union of India. Languages coupled with regional and tribal identity and not religion has therefore provided the most powerful instrument for the formation of ethno-rational identity in India.

Which of the following cultural markers is not responsible for regionalism in India?

1. Tribe
2. Caste
3. Religion
4. Language

**Options :**

- 485584135305. 1
- 485584135306. 2
- 485584135307. 3
- 485584135308. 4

**Question Number : 463 Question Id : 48558433828 Question Type : MCQ Option Shuffling : No Is Question Mandatory : No Calculator : None Response Time : N.A Think Time : N.A Minimum Instruction Time : 0**

**Correct Marks : 5 Wrong Marks : 1**

**Question Key Details :**

Key	Value
Comprehension	Comp1

Read the passage and answer the questions:

Regionalism in India is rooted in India's diversity of languages, cultures, tribes and religions. It is also encouraged by the geographical concentration of these identity workers in particular regions and fuelled by a sense of regional deprivation. Indian federalism has been a means of accommodating these regional sentiments.

After independence, initially the Indian state continued with the British-Indian arrangement, dividing India into large provinces, also called 'Presidencies'. These were large multi-ethnic and multilingual provincial states constituting the major political-administrative units of a semi-federal state called the Union of India. Languages coupled with regional and tribal identity and not religion has therefore provided the most powerful instrument for the formation of ethno-rational identity in India.

During British period, India was divided into large provinces called

1. Principalities
2. State
3. Princely states
4. Presidencies

**Options :**

- 485584135309. 1
- 485584135310. 2
- 485584135311. 3
- 485584135312. 4

**Question Number : 464 Question Id : 48558433829 Question Type : MCQ Option Shuffling : No Is Question Mandatory : No Calculator : None Response Time : N.A Think Time : N.A Minimum Instruction Time : 0**

**Correct Marks : 5 Wrong Marks : 1**

**Question Key Details :**

Key	Value
Comprehension	Compl

Read the passage and answer the questions:

Regionalism in India is rooted in India's diversity of languages, cultures, tribes and religions. It is also encouraged by the geographical concentration of these identity workers in particular regions and fuelled by a sense of regional deprivation. Indian federalism has been a means of accommodating these regional sentiments.

After independence, initially the Indian state continued with the British-Indian arrangement, dividing India into large provinces, also called 'Presidencies'. These were large multi-ethnic and multilingual provincial states constituting the major political-administrative units of a semi-federal state called the Union of India. Languages coupled with regional and tribal identity and not religion has therefore provided the most powerful instrument for the formation of ethno-rational identity in India.

The term used for addressing the existence of diversity of languages is

1. Multi-lingual
2. Multicultural
3. Multi-ethnic
4. Mono-lingual

**Options :**

485584135313. 1  
485584135314. 2  
485584135315. 3  
485584135316. 4

**Question Number : 465 Question Id : 48558433830 Question Type : MCQ Option Shuffling : No Is Question Mandatory : No Calculator : None Response Time : N.A Think Time : N.A Minimum Instruction Time : 0**

**Correct Marks : 5 Wrong Marks : 1**

**Question Key Details :**

Key	Value
Comprehension	Comp1

Read the passage and answer the questions:

Regionalism in India is rooted in India's diversity of languages, cultures, tribes and religions. It is also encouraged by the geographical concentration of these identity workers in particular regions and fuelled by a sense of regional deprivation. Indian federalism has been a means of accommodating these regional sentiments.

After independence, initially the Indian state continued with the British-Indian arrangement, dividing India into large provinces, also called 'Presidencies'. These were large multi-ethnic and multilingual provincial states constituting the major political-administrative units of a semi-federal state called the Union of India. Languages coupled with regional and tribal identity and not religion has therefore provided the most powerful instrument for the formation of ethno-rational identity in India.

For the growth of regionalism, the prerequisite is

1. Sense of being dominant
2. Sense of deprivation
3. Sense of empowerment
4. Sense of advancement

**Options :**

485584135317. 1  
485584135318. 2  
485584135319. 3  
485584135320. 4

**Sub-Section Number :**

3

**Sub-Section Id :**

4855842447

**Question Shuffling Allowed :**

No

**Is Section Default? :**

null

**Question Number : 466 Question Id : 48558433831 Question Type : MCQ Option Shuffling : No Is Question Mandatory : No Calculator : None Response Time : N.A Think Time : N.A Minimum Instruction Time : 0**

**Correct Marks : 5 Wrong Marks : 1**

**Question Key Details :**

Key	Value
Comprehension	Comp2

Read the passage and answer the following questions:

These are indicators of the process of globalisation of agriculture, or the incorporation of agriculture into the larger global market - a process that has had direct effects on farmers and rural society. For instance, in some regions such as Punjab and Karnataka, farmers enter into contracts with multinational companies (such as PepsiCo) to grow certain crops (such as tomatoes and potatoes), which the companies then buy from them for processing or export. In such 'contract farming' systems, the company identifies the crops to be grown, provides the seeds and other inputs, as well as the knowhow and often also the working capital. In return, the farmer is assured of a market because the company guarantees that it will purchase the produce at a predetermined fixed price. Contract farming is very common now in the production of specialised items such as cut flowers, fruits such as grapes, figs and pomegranates, cotton and oil seeds. While contract farming appears to provide financial security to farmers, it can also lead to greater insecurity as farmers become dependent on these companies for their livelihoods. Contract farming of export-oriented products such as flowers and gherkins also means that agricultural land is diverted from food grain production. Contract farming has sociological significance in that it disengages many people from the production process and makes their own indigenous knowledge of agriculture irrelevant. In addition, contract farming caters primarily to the production of elite items, and because it usually requires high doses of fertilisers and pesticides, it is often not ecologically sustainable.

Contract farming happens for:

1. Cash crops only
2. Food crops only
3. Oil seeds and cotton
4. Food processing industry

**Options :**

485584135321. 1

485584135322. 2

485584135323. 3

485584135324. 4

**Question Number : 467 Question Id : 48558433832 Question Type : MCQ Option Shuffling : No Is Question Mandatory : No Calculator : None Response Time : N.A Think Time : N.A Minimum Instruction Time : 0**

**Correct Marks : 5 Wrong Marks : 1**

**Question Key Details :**

Key	Value
Comprehension	Comp2

Read the passage and answer the following questions:

These are indicators of the process of globalisation of agriculture, or the incorporation of agriculture into the larger global market - a process that has had direct effects on farmers and rural society. For instance, in some regions such as Punjab and Karnataka, farmers enter into contracts with multinational companies (such as PepsiCo) to grow certain crops (such as tomatoes and potatoes), which the companies then buy from them for processing or export. In such 'contract farming' systems, the company identifies the crops to be grown, provides the seeds and other inputs, as well as the knowhow and often also the working capital. In return, the farmer is assured of a market because the company guarantees that it will purchase the produce at a predetermined fixed price. Contract farming is very common now in the production of specialised items such as cut flowers, fruits such as grapes, figs and pomegranates, cotton and oil seeds. While contract farming appears to provide financial security to farmers, it can also lead to greater insecurity as farmers become dependent on these companies for their livelihoods. Contract farming of export-oriented products such as flowers and gherkins also means that agricultural land is diverted from food grain production. Contract farming has sociological significance in that it disengages many people from the production process and makes their own indigenous knowledge of agriculture irrelevant. In addition, contract farming caters primarily to the production of elite items, and because it usually requires high doses of fertilisers and pesticides, it is often not ecologically sustainable.

The change in the nature of relationship between landlords and agricultural workers has been described by the sociologist Jan Brewman as:

1. shift from patronage to exploitation
2. shift from ownership to tenancy
3. withdrawal from subsistence farming
4. withdrawal from agriculture

**Options :**

- 485584135325. 1
- 485584135326. 2
- 485584135327. 3
- 485584135328. 4

**Question Number : 468 Question Id : 48558433833 Question Type : MCQ Option Shuffling : No Is Question Mandatory : No Calculator : None Response Time : N.A Think Time : N.A Minimum Instruction Time : 0**

**Correct Marks : 5 Wrong Marks : 1**

**Question Key Details :**

Key	Value
Comprehension	Comp2

Read the passage and answer the following questions:

These are indicators of the process of globalisation of agriculture, or the incorporation of agriculture into the larger global market - a process that has had direct effects on farmers and rural society. For instance, in some regions such as Punjab and Karnataka, farmers enter into contracts with multinational companies (such as PepsiCo) to grow certain crops (such as tomatoes and potatoes), which the companies then buy from them for processing or export. In such 'contract farming' systems, the company identifies the crops to be grown, provides the seeds and other inputs, as well as the knowhow and often also the working capital. In return, the farmer is assured of a market because the company guarantees that it will purchase the produce at a predetermined fixed price. Contract farming is very common now in the production of specialised items such as cut flowers, fruits such as grapes, figs and pomegranates, cotton and oil seeds. While contract farming appears to provide financial security to farmers, it can also lead to greater insecurity as farmers become dependent on these companies for their livelihoods. Contract farming of export-oriented products such as flowers and gherkins also means that agricultural land is diverted from food grain production. Contract farming has sociological significance in that it disengages many people from the production process and makes their own indigenous knowledge of agriculture irrelevant. In addition, contract farming caters primarily to the production of elite items, and because it usually requires high doses of fertilisers and pesticides, it is often not ecologically sustainable.

Who decides the crop to be grown under contract farming?

1. Farmer
2. Tenants
3. Labourer
4. Company

**Options :**

485584135329. 1  
485584135330. 2  
485584135331. 3  
485584135332. 4

**Question Number : 469 Question Id : 48558433834 Question Type : MCQ Option Shuffling : No Is Question Mandatory : No Calculator : None Response Time : N.A Think Time : N.A Minimum Instruction Time : 0**

**Correct Marks : 5 Wrong Marks : 1**

**Question Key Details :**

Key	Value
Comprehension	Comp2

Read the passage and answer the following questions:

These are indicators of the process of globalisation of agriculture, or the incorporation of agriculture into the larger global market - a process that has had direct effects on farmers and rural society. For instance, in some regions such as Punjab and Karnataka, farmers enter into contracts with multinational companies (such as PepsiCo) to grow certain crops (such as tomatoes and potatoes), which the companies then buy from them for processing or export. In such 'contract farming' systems, the company identifies the crops to be grown, provides the seeds and other inputs, as well as the knowhow and often also the working capital. In return, the farmer is assured of a market because the company guarantees that it will purchase the produce at a predetermined fixed price. Contract farming is very common now in the production of specialised items such as cut flowers, fruits such as grapes, figs and pomegranates, cotton and oil seeds. While contract farming appears to provide financial security to farmers, it can also lead to greater insecurity as farmers become dependent on these companies for their livelihoods. Contract farming of export-oriented products such as flowers and gherkins also means that agricultural land is diverted from food grain production. Contract farming has sociological significance in that it disengages many people from the production process and makes their own indigenous knowledge of agriculture irrelevant. In addition, contract farming caters primarily to the production of elite items, and because it usually requires high doses of fertilisers and pesticides, it is often not ecologically sustainable.

Out of the following, which is not a demerit of contract farming?

1. Provides financial security to the farmer
2. Indigenous knowledge becomes irrelevant regarding agriculture
3. Ecologically not sustainable
4. Does not produce for the masses

**Options :**

- 485584135333. 1
- 485584135334. 2
- 485584135335. 3
- 485584135336. 4

**Question Number : 470 Question Id : 48558433835 Question Type : MCQ Option Shuffling : No Is Question Mandatory : No Calculator : None Response Time : N.A Think Time : N.A Minimum Instruction Time : 0**

**Correct Marks : 5 Wrong Marks : 1**

**Question Key Details :**

Key	Value
Comprehension	Comp2



Read the passage and answer the following questions:

These are indicators of the process of globalisation of agriculture, or the incorporation of agriculture into the larger global market - a process that has had direct effects on farmers and rural society. For instance, in some regions such as Punjab and Karnataka, farmers enter into contracts with multinational companies (such as PepsiCo) to grow certain crops (such as tomatoes and potatoes), which the companies then buy from them for processing or export. In such 'contract farming' systems, the company identifies the crops to be grown, provides the seeds and other inputs, as well as the knowhow and often also the working capital. In return, the farmer is assured of a market because the company guarantees that it will purchase the produce at a predetermined fixed price. Contract farming is very common now in the production of specialised items such as cut flowers, fruits such as grapes, figs and pomegranates, cotton and oil seeds. While contract farming appears to provide financial security to farmers, it can also lead to greater insecurity as farmers become dependent on these companies for their livelihoods. Contract farming of export-oriented products such as flowers and gherkins also means that agricultural land is diverted from food grain production. Contract farming has sociological significance in that it disengages many people from the production process and makes their own indigenous knowledge of agriculture irrelevant. In addition, contract farming caters primarily to the production of elite items, and because it usually requires high doses of fertilisers and pesticides, it is often not ecologically sustainable.

The system described in the passage is possible due to which process?

1. Globalisation
2. Contract farming
3. Trans National Corporation
4. Glocalisation

**Options :**

485584135337. 1  
485584135338. 2  
485584135339. 3  
485584135340. 4

## General Test

<b>Group Number :</b>	13
<b>Group Id :</b>	485584751
<b>Group Maximum Duration :</b>	60
<b>Group Minimum Duration :</b>	60
<b>Show Attended Group? :</b>	No
<b>Edit Attended Group? :</b>	No
<b>Break time :</b>	0
<b>Group Marks :</b>	250
<b>Is this Group for Examiner? :</b>	No
<b>Examiner permission :</b>	Can't View
<b>Show Progress Bar? :</b>	No

## General Test

**Section Id :** 485584869  
**Section Number :** 1  
**Section type :** Online  
**Mandatory or Optional :** Mandatory  
**Number of Questions :** 60  
**Number of Questions to be attempted :** 50  
**Section Marks :** 250  
**Enable Mark as Answered Mark for Review and Clear Response :** Yes  
**Maximum Instruction Time :** 0  
**Sub-Section Number :** 1  
**Sub-Section Id :** 4855842448  
**Question Shuffling Allowed :** Yes  
**Is Section Default? :** null

**Question Number : 471 Question Id : 48558433886 Question Type : MCQ Option Shuffling : No Is Question Mandatory : No Calculator : None Response Time : N.A Think Time : N.A Minimum Instruction Time : 0 Correct Marks : 5 Wrong Marks : 1**

**Question Key Details :**

Key	Value
Comprehension	MCQ

The C.P. of two shirts taken together is ₹910. If by selling one at a profit of 16% and the other at a loss of 12%, there is no loss or gain in the whole transaction, then the C.P. of the two shirts are respectively:

1. 380, 530
2. 370, 540
3. 390, 520
4. 400, 510

**Options :**

485584135541. 1
485584135542. 2
485584135543. 3
485584135544. 4

**Question Number : 472 Question Id : 48558433887 Question Type : MCQ Option Shuffling : No Is Question Mandatory : No Calculator : None Response Time : N.A Think Time : N.A Minimum Instruction Time : 0 Correct Marks : 5 Wrong Marks : 1**

**Question Key Details :**

Key	Value
Comprehension	MCQ

Heera purchased a bag for ₹4500 and sold it for ₹8,200. What is the profit percentage? (Correct to two places of decimal)

1. 82.22

2. 73.62

3. 45.12

4. 52.42

**Options :**

485584135545. 1

485584135546. 2

485584135547. 3

485584135548. 4

**Question Number : 473 Question Id : 48558433888 Question Type : MCQ Option Shuffling : No Is Question Mandatory : No Calculator : None Response Time : N.A Think Time : N.A Minimum Instruction Time : 0**

**Correct Marks : 5 Wrong Marks : 1**

**Question Key Details :**

Key	Value
Comprehension	MCQ

What is the value of  ${}^{81}P_2 - {}^{81}C_2$  ?

1. 6480

2. 3240

3. 2775

4. 5040

**Options :**

485584135549. 1

485584135550. 2

485584135551. 3

485584135552. 4

**Question Number : 474 Question Id : 48558433889 Question Type : MCQ Option Shuffling : No Is Question Mandatory : No Calculator : None Response Time : N.A Think Time : N.A Minimum Instruction Time : 0**

**Correct Marks : 5 Wrong Marks : 1**

**Question Key Details :**

Key	Value
Comprehension	MCQ

If  ${}^n C_9 = {}^n C_3$ , what is  $n$  ?

1. 10

2. 11

3. 12

4. 13

**Options :**

485584135553. 1

485584135554. 2

485584135555. 3

485584135556. 4

**Question Number : 475 Question Id : 48558433890 Question Type : MCQ Option Shuffling : No Is Question Mandatory : No Calculator : None Response Time : N.A Think Time : N.A Minimum Instruction Time : 0**

**Correct Marks : 5 Wrong Marks : 1**

**Question Key Details :**

Key	Value
Comprehension	MCQ

The Curved Surface Area of a right circular cylinder of base radius  $r$  is obtained by multiplying its volume:

1.  $2r^2$

2.  $\frac{2}{r^2}$

3.  $2r$

4.  $\frac{2}{r}$

**Options :**

485584135557. 1

485584135558. 2

485584135559. 3

485584135560. 4

**Question Number : 476 Question Id : 48558433891 Question Type : MCQ Option Shuffling : No Is Question Mandatory : No Calculator : None Response Time : N.A Think Time : N.A Minimum Instruction Time : 0**

**Correct Marks : 5 Wrong Marks : 1**

**Question Key Details :**

Key	Value
Comprehension	MCQ

Match List I with List II

LIST I		LIST II	
A.	Volume of cone	I.	$\frac{1}{3}\pi h(r_1^2 + r_2^2 + r_1r_2)$
B.	Volume of sphere	II.	$\frac{4}{3}\pi r^3$
C.	Volume of Frustum	III.	$\frac{1}{3}\pi r^2 h$
D.	Volume of cylinder	IV.	$\pi r^2 h$

Choose the correct answer from the options given below:

1. A-IV, B-I, C-III, D-II
2. A-III, B-IV, C-II, D-I
3. A-I, B-II, C-III, D-IV
4. A-II, B-IV, C-I, D-III

**Options :**

485584135561. 1  
485584135562. 2  
485584135563. 3  
485584135564. 4

**Question Number : 477 Question Id : 48558433892 Question Type : MCQ Option Shuffling : No Is Question Mandatory : No Calculator : None Response Time : N.A Think Time : N.A Minimum Instruction Time : 0**

**Correct Marks : 5 Wrong Marks : 1**

**Question Key Details :**

Key	Value
Comprehension	MCQ

A sum of money triples itself in 3 years at simple interest. In how many years will it become 9 times of itself?

1. 9 years
2. 10 years
3. 12 years
4. 8 years

**Options :**

485584135565. 1  
485584135566. 2  
485584135567. 3  
485584135568. 4

**Question Number : 478 Question Id : 48558433893 Question Type : MCQ Option Shuffling : No Is Question Mandatory : No Calculator : None Response Time : N.A Think Time : N.A Minimum Instruction Time : 0**

Correct Marks : 5 Wrong Marks : 1

Question Key Details :

Key	Value
Comprehension	MCQ

At what rate of simple interest, a sum of ₹1,800 will become ₹2,700 in 10 years?

1. 10%
2. 6%
3. 6.75%
4. 5%

Options :

485584135569. 1  
485584135570. 2  
485584135571. 3  
485584135572. 4

Question Number : 479 Question Id : 48558433894 Question Type : MCQ Option Shuffling : No Is Question Mandatory : No Calculator : None Response Time : N.A Think Time : N.A Minimum Instruction Time : 0

Correct Marks : 5 Wrong Marks : 1

Question Key Details :

Key	Value
Comprehension	MCQ

Where does the point P (-5, 0) lies?

1. Third quadrant
2. y-axis
3. x-axis
4. Fourth quadrant

Options :

485584135573. 1  
485584135574. 2  
485584135575. 3  
485584135576. 4

Question Number : 480 Question Id : 48558433895 Question Type : MCQ Option Shuffling : No Is Question Mandatory : No Calculator : None Response Time : N.A Think Time : N.A Minimum Instruction Time : 0

Correct Marks : 5 Wrong Marks : 1

Question Key Details :

Key	Value
Comprehension	MCQ

If P, R, T are the areas of parallelogram, a rhombus and a triangle standing on the same base and between the same parallel lines, then which of the following is true?

1.  $R < P < T$
2.  $P > R > T$
3.  $R = P = T$
4.  $R = P = 2T$

**Options :**

- 485584135577. 1
- 485584135578. 2
- 485584135579. 3
- 485584135580. 4

**Question Number : 481 Question Id : 48558433896 Question Type : MCQ Option Shuffling : No Is Question Mandatory : No Calculator : None Response Time : N.A Think Time : N.A Minimum Instruction Time : 0**

**Correct Marks : 5 Wrong Marks : 1**

**Question Key Details :**

Key	Value
Comprehension	MCQ

Given expression:

$$\frac{(0.682)^2 - (0.318)^2}{0.682 - 0.318}$$

1. 2
2. 4
3. 1
4. 5

**Options :**

- 485584135581. 1
- 485584135582. 2
- 485584135583. 3
- 485584135584. 4

**Question Number : 482 Question Id : 48558433897 Question Type : MCQ Option Shuffling : No Is Question Mandatory : No Calculator : None Response Time : N.A Think Time : N.A Minimum Instruction Time : 0**

**Correct Marks : 5 Wrong Marks : 1**

**Question Key Details :**

Key	Value
Comprehension	MCQ

A man goes uphill with an average speed of 24 km/h and comes down with an average speed of 36 km/h. The distance travelled in both cases being the same. The average speed for the entire journey is:

1. 30 km/h
2. 28.8 km/h
3. 32 km/h
4. 45 km/h

**Options :**

485584135585. 1  
485584135586. 2  
485584135587. 3  
485584135588. 4

**Question Number : 483 Question Id : 48558433898 Question Type : MCQ Option Shuffling : No Is Question Mandatory : No Calculator : None Response Time : N.A Think Time : N.A Minimum Instruction Time : 0**

**Correct Marks : 5 Wrong Marks : 1**

**Question Key Details :**

Key	Value
Comprehension	MCQ

A 300 m long train is moving at a speed of 60 km/h. In what time will it cross a single pole?

1. 25 sec
2. 30 sec
3. 18 sec
4. 12 sec

**Options :**

485584135589. 1  
485584135590. 2  
485584135591. 3  
485584135592. 4

**Question Number : 484 Question Id : 48558433899 Question Type : MCQ Option Shuffling : No Is Question Mandatory : No Calculator : None Response Time : N.A Think Time : N.A Minimum Instruction Time : 0**

**Correct Marks : 5 Wrong Marks : 1**

**Question Key Details :**

Key	Value
Comprehension	MCQ



In a polyhedron, the number of faces is 4 and the number of edges is 6, then the number of vertices of that polyhedron is:

- 1. 1
- 2. 2
- 3. 3
- 4. 4

**Options :**

- 485584135593. 1
- 485584135594. 2
- 485584135595. 3
- 485584135596. 4

**Question Number : 485 Question Id : 48558433900 Question Type : MCQ Option Shuffling : No Is Question Mandatory : No Calculator : None Response Time : N.A Think Time : N.A Minimum Instruction Time : 0**

**Correct Marks : 5 Wrong Marks : 1**

**Question Key Details :**

Key	Value
Comprehension	MCQ

The number  $0.4\overline{23}$  converted to a fraction, then it is equal to:

- 1.  $\frac{1147}{300}$
- 2.  $\frac{419}{900}$
- 3.  $\frac{419}{990}$
- 4.  $\frac{423}{100}$

**Options :**

- 485584135597. 1
- 485584135598. 2
- 485584135599. 3
- 485584135600. 4

**Question Number : 486 Question Id : 48558433901 Question Type : MCQ Option Shuffling : No Is Question Mandatory : No Calculator : None Response Time : N.A Think Time : N.A Minimum Instruction Time : 0**

**Correct Marks : 5 Wrong Marks : 1**

**Question Key Details :**

Key	Value
Comprehension	MCQ

Which of the following is called 'Trapezium'?

1. All the sides are equal
2. Two opposite parallel sides are equal
3. Two opposite sides are parallel and two opposite sides are non-parallel
4. A pair of adjacent sides are equal

**Options :**

485584135601. 1  
485584135602. 2  
485584135603. 3  
485584135604. 4

**Question Number : 487 Question Id : 48558433902 Question Type : MCQ Option Shuffling : No Is Question Mandatory : No Calculator : None Response Time : N.A Think Time : N.A Minimum Instruction Time : 0**

**Correct Marks : 5 Wrong Marks : 1**

**Question Key Details :**

Key	Value
Comprehension	MCQ

From a well shuffled pack of 52 cards, three cards are drawn one by one. The probability that the three cards are Jack, Queen and King respectively?

1.  $\frac{11}{1105}$
2.  $\frac{8}{16575}$
3.  $\frac{27}{2197}$
4.  $\frac{27}{305}$

**Options :**

485584135605. 1  
485584135606. 2  
485584135607. 3  
485584135608. 4

**Question Number : 488 Question Id : 48558433903 Question Type : MCQ Option Shuffling : No Is Question Mandatory : No Calculator : None Response Time : N.A Think Time : N.A Minimum Instruction Time : 0**

**Correct Marks : 5 Wrong Marks : 1**

**Question Key Details :**

Key	Value
Comprehension	MCQ

Two unbiased coins are tossed. What is the probability of getting one head and one tail?

1.  $\frac{1}{2}$

2.  $\frac{1}{3}$

3.  $\frac{1}{4}$

4. 1

**Options :**

485584135609. 1

485584135610. 2

485584135611. 3

485584135612. 4

**Question Number : 489 Question Id : 48558433904 Question Type : MCQ Option Shuffling : No Is Question Mandatory : No Calculator : None Response Time : N.A Think Time : N.A Minimum Instruction Time : 0**

**Correct Marks : 5 Wrong Marks : 1**

**Question Key Details :**

Key	Value
Comprehension	MCQ

If the manufacturer gains 10%, the wholesale dealer gains 15% and the retailer gains 25%, then find the cost of production of a table, if the retail price of which is ₹1265?

1. ₹1000

2. ₹900

3. ₹800

4. ₹700

**Options :**

485584135613. 1

485584135614. 2

485584135615. 3

485584135616. 4

**Question Number : 490 Question Id : 48558433905 Question Type : MCQ Option Shuffling : No Is Question Mandatory : No Calculator : None Response Time : N.A Think Time : N.A Minimum Instruction Time : 0**

**Correct Marks : 5 Wrong Marks : 1**

**Question Key Details :**

Key	Value
Comprehension	MCQ

In what ratio must a shopkeeper mix peas and soyabean of ₹16 and ₹25 per kg respectively, so as to obtain a mixture of ₹19 per kg?

1. 2 : 1

2. 7 : 5

3. 11 : 7

4. 13 : 8

**Options :**

485584135617. 1

485584135618. 2

485584135619. 3

485584135620. 4

**Question Number : 491 Question Id : 48558433906 Question Type : MCQ Option Shuffling : No Is Question Mandatory : No Calculator : None Response Time : N.A Think Time : N.A Minimum Instruction Time : 0**

**Correct Marks : 5 Wrong Marks : 1**

**Question Key Details :**

Key	Value
Comprehension	MCQ

Find the missing term

1, 4, 27, 16, ?, 36, 343

1. 25

2. 87

3. 120

4. 125

**Options :**

485584135621. 1

485584135622. 2

485584135623. 3

485584135624. 4

**Question Number : 492 Question Id : 48558433907 Question Type : MCQ Option Shuffling : No Is Question Mandatory : No Calculator : None Response Time : N.A Think Time : N.A Minimum Instruction Time : 0**

**Correct Marks : 5 Wrong Marks : 1**

**Question Key Details :**

Key	Value
Comprehension	MCQ

From the given statements, what conclusion can be made?

**Statements :** Some men are wise  
All wise are professors

**Conclusion I :** Some men are professors.  
**II :** All professors are wise

1. Only I follows
2. Only II follows
3. I and II follows
4. Either I or II follows

**Options :**

- 485584135625. 1
- 485584135626. 2
- 485584135627. 3
- 485584135628. 4

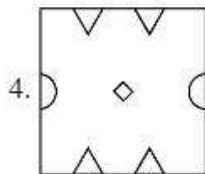
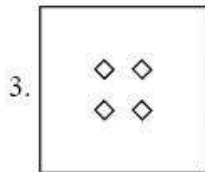
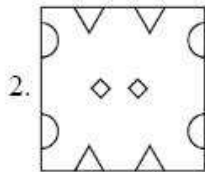
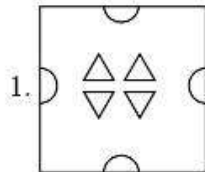
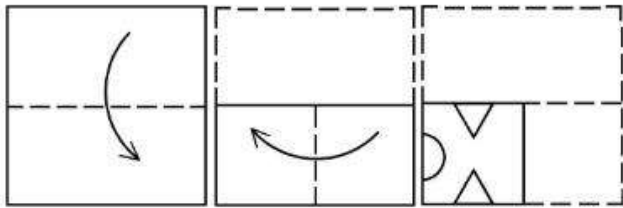
**Question Number : 493 Question Id : 48558433908 Question Type : MCQ Option Shuffling : No Is Question Mandatory : No Calculator : None Response Time : N.A Think Time : N.A Minimum Instruction Time : 0**

**Correct Marks : 5 Wrong Marks : 1**

**Question Key Details :**

Key	Value
Comprehension	MCQ

A piece of paper is folded and a cut is made as shown below. How it will appear when opened?



**Options :**

- 485584135629. 1
- 485584135630. 2
- 485584135631. 3
- 485584135632. 4

**Question Number : 494 Question Id : 48558433909 Question Type : MCQ Option Shuffling : No Is Question Mandatory : No Calculator : None Response Time : N.A Think Time : N.A Minimum Instruction Time : 0**

**Correct Marks : 5 Wrong Marks : 1**

**Question Key Details :**

Key	Value
Comprehension	MCQ

Manish goes 8 km in the North from his school. Now, turning to the left, he goes 15 km and again turns to the left and goes to 8 km. How far he is from his school and in which direction?

1. 15 km, South from school
2. 8 km, North from school
3. 8 km, West from school
4. 15 km, West from school

**Options :**

485584135633. 1  
485584135634. 2  
485584135635. 3  
485584135636. 4

**Question Number : 495 Question Id : 48558433910 Question Type : MCQ Option Shuffling : No Is Question Mandatory : No Calculator : None Response Time : N.A Think Time : N.A Minimum Instruction Time : 0**

**Correct Marks : 5 Wrong Marks : 1**

**Question Key Details :**

Key	Value
Comprehension	MCQ

Among P, Q, R, S, T, each having different weight, R is heavier than only P and S is lighter than Q and heavier than T. Who among them is the heaviest?

1. P
2. Q
3. S
4. T

**Options :**

485584135637. 1  
485584135638. 2  
485584135639. 3  
485584135640. 4

**Question Number : 496 Question Id : 48558433911 Question Type : MCQ Option Shuffling : No Is Question Mandatory : No Calculator : None Response Time : N.A Think Time : N.A Minimum Instruction Time : 0**

**Correct Marks : 5 Wrong Marks : 1**

**Question Key Details :**

Key	Value
Comprehension	MCQ

First two words are related in a certain way in:

Transition : Change :: Immobility : ?

Identify the suitable word in place of ? so that third and fourth words also become relatable the some manner.

1. Stillness
2. Liveliness
3. Action
4. Busyness

**Options :**

485584135641. 1  
485584135642. 2  
485584135643. 3  
485584135644. 4

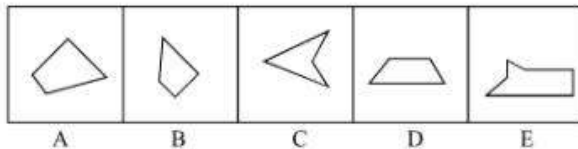
**Question Number : 497 Question Id : 48558433912 Question Type : MCQ Option Shuffling : No Is Question Mandatory : No Calculator : None Response Time : N.A Think Time : N.A Minimum Instruction Time : 0**

**Correct Marks : 5 Wrong Marks : 1**

**Question Key Details :**

Key	Value
Comprehension	MCQ

Which three of the given can be added to get a rectangular figure?



1. A, B, C
2. B, C, E
3. B, D, E
4. A, D, E

**Options :**

485584135645. 1  
485584135646. 2  
485584135647. 3  
485584135648. 4

**Question Number : 498 Question Id : 48558433913 Question Type : MCQ Option Shuffling : No Is Question Mandatory : No Calculator : None Response Time : N.A Think Time : N.A Minimum Instruction Time : 0**

**Correct Marks : 5 Wrong Marks : 1**

**Question Key Details :**

Key	Value
-----	-------



January 11, 1997 was a Sunday. What day of the week was on January 7, 2000?

1. Sunday
2. Monday
3. Saturday
4. Tuesday

**Options :**

485584135649. 1  
485584135650. 2  
485584135651. 3  
485584135652. 4


**Question Number : 499 Question Id : 48558433914 Question Type : MCQ Option Shuffling : No Is Question Mandatory : No Calculator : None Response Time : N.A Think Time : N.A Minimum Instruction Time : 0**

**Correct Marks : 5 Wrong Marks : 1**

**Question Key Details :**

Key	Value
Comprehension	MCQ

Choose the correct mirror image of the following:



1                      2                      3                      4

1. 1
2. 2
3. 3
4. 4

**Options :**

485584135653. 1  
485584135654. 2  
485584135655. 3  
485584135656. 4

**Question Number : 500 Question Id : 48558433915 Question Type : MCQ Option Shuffling : No Is Question Mandatory : No Calculator : None Response Time : N.A Think Time : N.A Minimum Instruction Time : 0**

Correct Marks : 5 Wrong Marks : 1

Question Key Details :

Key	Value
Comprehension	MCQ

Choose odd one out from the following:

1. Copper
2. Iron
3. Aluminium
4. Bromine

Options :

- 485584135657. 1
- 485584135658. 2
- 485584135659. 3
- 485584135660. 4

Question Number : 501 Question Id : 48558433916 Question Type : MCQ Option Shuffling : No Is Question Mandatory : No Calculator : None Response Time : N.A Think Time : N.A Minimum Instruction Time : 0

Correct Marks : 5 Wrong Marks : 1

Question Key Details :

Key	Value
Comprehension	MCQ

Study the following sequence and then answer the question given below:

9 H 7 Z A 9 2 B C H 3 1 X W V 5 T 4 M 6 0 Q 8 F J.

If every fourth letter/number in the above sequence starting from 7 is eliminated, which of the following will be fifth letter/number to the left of the 12th position from your right?

1. H
2. Z
3. A
4. C

Options :

- 485584135661. 1
- 485584135662. 2
- 485584135663. 3
- 485584135664. 4

Question Number : 502 Question Id : 48558433917 Question Type : MCQ Option Shuffling : No Is Question Mandatory : No Calculator : None Response Time : N.A Think Time : N.A Minimum Instruction Time : 0

Correct Marks : 5 Wrong Marks : 1

Question Key Details :

Key	Value
-----	-------

Comprehension	MCQ
---------------	-----

If you are head of your office, some media people come to your office and request you brief them about the pension plan of your office, you will:

1. Ask the media people to come some other day
2. Immediately accept the offer and brief them
3. Get them turned out of your office
4. Ask them to wait and to consult the official concerned

**Options :**

- 485584135665. 1
- 485584135666. 2
- 485584135667. 3
- 485584135668. 4

**Question Number : 503 Question Id : 48558433918 Question Type : MCQ Option Shuffling : No Is Question Mandatory : No Calculator : None Response Time : N.A Think Time : N.A Minimum Instruction Time : 0**

**Correct Marks : 5 Wrong Marks : 1**

**Question Key Details :**

Key	Value
Comprehension	MCQ

In a certain code, COMPUTER is coded as ETUPMOCR. How is INACTIVE written in the same code?

1. VITCANIE
2. VICTNAII
3. VICTANIF
4. VITCANIG

**Options :**

- 485584135669. 1
- 485584135670. 2
- 485584135671. 3
- 485584135672. 4

**Question Number : 504 Question Id : 48558433919 Question Type : MCQ Option Shuffling : No Is Question Mandatory : No Calculator : None Response Time : N.A Think Time : N.A Minimum Instruction Time : 0**

**Correct Marks : 5 Wrong Marks : 1**

**Question Key Details :**

Key	Value
Comprehension	MCQ

Select the figure from amongst the four alternatives, which when place in the blank space would complete the pattern?

×		×		×	
	×		×		×
×		×		×	
#		#			
	#				
#		#			

1.

#	#	#
	#	

2.

	#	
#		#
	#	

3.

#		#
#		#

4.

	#	
	#	
	#	

**Options :**

- 485584135673. 1
- 485584135674. 2
- 485584135675. 3
- 485584135676. 4

**Question Number : 505 Question Id : 48558433920 Question Type : MCQ Option Shuffling : No Is Question Mandatory : No Calculator : None Response Time : N.A Think Time : N.A Minimum Instruction Time : 0**

**Correct Marks : 5 Wrong Marks : 1**

**Question Key Details :**

Key	Value
Comprehension	MCQ

Rajni ranked 9th from the top and 38th from the bottom in a class. How many students are there in the class?

1. 46
2. 47
3. 45
4. 44

**Options :**

485584135677. 1  
485584135678. 2  
485584135679. 3  
485584135680. 4

**Question Number : 506 Question Id : 48558433921 Question Type : MCQ Option Shuffling : No Is Question Mandatory : No Calculator : None Response Time : N.A Think Time : N.A Minimum Instruction Time : 0**

**Correct Marks : 5 Wrong Marks : 1**

**Question Key Details :**

Key	Value
Comprehension	MCQ

The following two numbers are connected by some relationship:

82 : 9

Identify the suitable pair to which the same relationship is applicable.

1. 5 : 26
2. 6 : 37
3. 35 : 6
4. 26 : 5

**Options :**

485584135681. 1  
485584135682. 2  
485584135683. 3  
485584135684. 4

**Question Number : 507 Question Id : 48558433922 Question Type : MCQ Option Shuffling : No Is Question Mandatory : No Calculator : None Response Time : N.A Think Time : N.A Minimum Instruction Time : 0**

**Correct Marks : 5 Wrong Marks : 1**

**Question Key Details :**

Key	Value
Comprehension	MCQ

P and Q are married couple. A and B are brothers. A is the brother of P. How is B related to Q?

1. Brother-in-law
2. Cousin
3. Son
4. Brother

**Options :**

- 485584135685. 1
- 485584135686. 2
- 485584135687. 3
- 485584135688. 4

**Question Number : 508 Question Id : 48558433923 Question Type : MCQ Option Shuffling : No Is Question Mandatory : No Calculator : None Response Time : N.A Think Time : N.A Minimum Instruction Time : 0**

**Correct Marks : 5 Wrong Marks : 1**

**Question Key Details :**

Key	Value
Comprehension	MCQ

Below mentioned question consists of a statement followed by two arguments I and II.

**Statement :** Should 'education' be brought under the control of the Central Government like defence?

**Argument I :** No. Education is a state subject and it should remain with state.

**II :** Yes. This is the only way to establish uniformity in a growth of education across the states.

1. Only argument I is strong
2. Only argument II is strong.
3. Either I or II is strong
4. Neither I nor II is strong

**Options :**

- 485584135689. 1
- 485584135690. 2
- 485584135691. 3
- 485584135692. 4

**Question Number : 509 Question Id : 48558433924 Question Type : MCQ Option Shuffling : No Is Question Mandatory : No Calculator : None Response Time : N.A Think Time : N.A Minimum Instruction Time : 0**

**Correct Marks : 5 Wrong Marks : 1**

**Question Key Details :**

Key	Value
Comprehension	MCQ

Choose the correct option on the basis of the following statements and conclusions.

**Statement :** Morning walks are good for health.

**Conclusion I :** All healthy people go for morning walks.

**II :** Evening walks are harmful.

1. Only conclusion I follow
2. Only conclusion II follow
3. Both I and II follow
4. Neither I nor II follow

**Options :**

485584135693. 1

485584135694. 2

485584135695. 3

485584135696. 4

**Question Number : 510 Question Id : 48558433925 Question Type : MCQ Option Shuffling : No Is Question Mandatory :**

**No Calculator : None Response Time : N.A Think Time : N.A Minimum Instruction Time : 0**

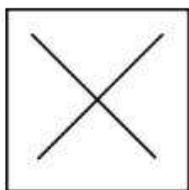
**Correct Marks : 5 Wrong Marks : 1**

**Question Key Details :**

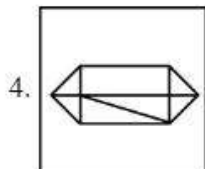
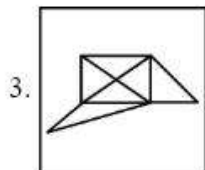
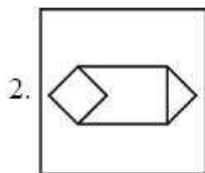
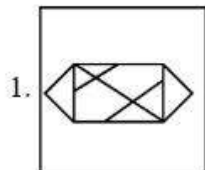
Key	Value
Comprehension	MCQ

In which option problem figure is embedded :

Problem Figure :



Answer Figure:



**Options :**

- 485584135697. 1
- 485584135698. 2
- 485584135699. 3
- 485584135700. 4

**Question Number : 511 Question Id : 48558433926 Question Type : MCQ Option Shuffling : No Is Question Mandatory : No Calculator : None Response Time : N.A Think Time : N.A Minimum Instruction Time : 0**

**Correct Marks : 5 Wrong Marks : 1**

**Question Key Details :**

Key	Value
Comprehension	MCQ



Which city does not have Jantar Mantar observatories built by Jai Singh II in the early 18th century?

1. Jaipur
2. New Delhi
3. Agra
4. Ujjain

**Options :**

485584135701. 1  
485584135702. 2  
485584135703. 3  
485584135704. 4

**Question Number : 512 Question Id : 48558433927 Question Type : MCQ Option Shuffling : No Is Question Mandatory : No Calculator : None Response Time : N.A Think Time : N.A Minimum Instruction Time : 0**

**Correct Marks : 5 Wrong Marks : 1**

**Question Key Details :**

Key	Value
Comprehension	MCQ

Who founded the Pala empire?

1. Dharpala
2. Gopala
3. Jayadeva
4. Senpala

**Options :**

485584135705. 1  
485584135706. 2  
485584135707. 3  
485584135708. 4

**Question Number : 513 Question Id : 48558433928 Question Type : MCQ Option Shuffling : No Is Question Mandatory : No Calculator : None Response Time : N.A Think Time : N.A Minimum Instruction Time : 0**

**Correct Marks : 5 Wrong Marks : 1**

**Question Key Details :**

Key	Value
Comprehension	MCQ

Alai Darwaja was built by:

1. Muhammad - bin - Tughlaq
2. Ala-ud-din Khilji
3. Amir Khusro
4. Iltilthmish

**Options :**

- 485584135709. 1
- 485584135710. 2
- 485584135711. 3
- 485584135712. 4

**Question Number : 514 Question Id : 48558433929 Question Type : MCQ Option Shuffling : No Is Question Mandatory : No Calculator : None Response Time : N.A Think Time : N.A Minimum Instruction Time : 0**

**Correct Marks : 5 Wrong Marks : 1**

**Question Key Details :**

Key	Value
Comprehension	MCQ

Who found 'Ramakrishna Mission'?

1. Mahatma Gandhi
2. B.R. Ambedkar
3. Swami Vivekananda
4. Swami Dayanand Saraswati

**Options :**

- 485584135713. 1
- 485584135714. 2
- 485584135715. 3
- 485584135716. 4

**Question Number : 515 Question Id : 48558433930 Question Type : MCQ Option Shuffling : No Is Question Mandatory : No Calculator : None Response Time : N.A Think Time : N.A Minimum Instruction Time : 0**

**Correct Marks : 5 Wrong Marks : 1**

**Question Key Details :**

Key	Value
Comprehension	MCQ

One light year is equals to \_\_\_\_\_.

1.  $9.46 \times 10^{12}$  km
2.  $1.12 \times 10^{10}$  km
3.  $9.00 \times 10^8$  km
4.  $9.42 \times 10^9$  km

**Options :**

485584135717. 1  
485584135718. 2  
485584135719. 3  
485584135720. 4

**Question Number : 516 Question Id : 48558433931 Question Type : MCQ Option Shuffling : No Is Question Mandatory : No Calculator : None Response Time : N.A Think Time : N.A Minimum Instruction Time : 0**

**Correct Marks : 5 Wrong Marks : 1**

**Question Key Details :**

Key	Value
Comprehension	MCQ

What is scientific name of 'Horse'?

1. Felis catus
2. Capra hercus
3. Eqqus caballus
4. Nija naja

**Options :**

485584135721. 1  
485584135722. 2  
485584135723. 3  
485584135724. 4

**Question Number : 517 Question Id : 48558433932 Question Type : MCQ Option Shuffling : No Is Question Mandatory : No Calculator : None Response Time : N.A Think Time : N.A Minimum Instruction Time : 0**

**Correct Marks : 5 Wrong Marks : 1**

**Question Key Details :**

Key	Value
Comprehension	MCQ

The change of gaseous state directly to solid state without going through liquid state is called \_\_\_\_\_.

1. Soildification
2. Sublimation
3. Deposition
4. Evaporation

**Options :**

485584135725. 1  
485584135726. 2  
485584135727. 3  
485584135728. 4

**Question Number : 518 Question Id : 48558433933 Question Type : MCQ Option Shuffling : No Is Question Mandatory : No Calculator : None Response Time : N.A Think Time : N.A Minimum Instruction Time : 0**

**Correct Marks : 5 Wrong Marks : 1**

**Question Key Details :**

Key	Value
Comprehension	MCQ

Who among the following in Ancient India made some prominent discoveries in Physics?

1. Sushruta
2. Charaka
3. Kanada
4. Nagarjuna

**Options :**

485584135729. 1  
485584135730. 2  
485584135731. 3  
485584135732. 4

**Question Number : 519 Question Id : 48558433934 Question Type : MCQ Option Shuffling : No Is Question Mandatory : No Calculator : None Response Time : N.A Think Time : N.A Minimum Instruction Time : 0**

**Correct Marks : 5 Wrong Marks : 1**

**Question Key Details :**

Key	Value
Comprehension	MCQ

Honourable Prime Minister of India has led the foundation for manufacturing plant of C-295 Aircraft at \_\_\_\_\_.

1. Gandhi Nagar
2. Rajkot
3. Surat
4. Vadodara

**Options :**

485584135733. 1  
485584135734. 2  
485584135735. 3  
485584135736. 4

**Question Number : 520 Question Id : 48558433935 Question Type : MCQ Option Shuffling : No Is Question Mandatory : No Calculator : None Response Time : N.A Think Time : N.A Minimum Instruction Time : 0**

**Correct Marks : 5 Wrong Marks : 1**

**Question Key Details :**

Key	Value
Comprehension	MCQ

In 2022, National conference on e-governance was held in \_\_\_\_\_.

1. Mumbai
2. Goa
3. New Delhi
4. Kolkata

**Options :**

485584135737. 1  
485584135738. 2  
485584135739. 3  
485584135740. 4

**Question Number : 521 Question Id : 48558433936 Question Type : MCQ Option Shuffling : No Is Question Mandatory : No Calculator : None Response Time : N.A Think Time : N.A Minimum Instruction Time : 0**

**Correct Marks : 5 Wrong Marks : 1**

**Question Key Details :**

Key	Value
Comprehension	MCQ

Naftali Bennett was sworn in as Israel's new Prime Minister on:

1. June 13, 2021
2. May 10, 2021
3. April 20, 2021
4. February, 2021

**Options :**

485584135741. 1  
485584135742. 2  
485584135743. 3  
485584135744. 4

**Question Number : 522 Question Id : 48558433937 Question Type : MCQ Option Shuffling : No Is Question Mandatory : No Calculator : None Response Time : N.A Think Time : N.A Minimum Instruction Time : 0**

**Correct Marks : 5 Wrong Marks : 1**

**Question Key Details :**

Key	Value
Comprehension	MCQ

Which of the following country become 11<sup>th</sup> member of ASEAN?

1. Vietnam
2. East Timor
3. Philippines
4. Laos

**Options :**

485584135745. 1  
485584135746. 2  
485584135747. 3  
485584135748. 4

**Question Number : 523 Question Id : 48558433938 Question Type : MCQ Option Shuffling : No Is Question Mandatory : No Calculator : None Response Time : N.A Think Time : N.A Minimum Instruction Time : 0**

**Correct Marks : 5 Wrong Marks : 1**

**Question Key Details :**

Key	Value
Comprehension	MCQ

Which of the following cities is known as the 'Cashew Capital of the World'?

1. Kozhikode
2. Kurnool
3. Kumbakonam
4. Kollam

**Options :**

485584135749. 1  
485584135750. 2  
485584135751. 3  
485584135752. 4

**Question Number : 524 Question Id : 48558433939 Question Type : MCQ Option Shuffling : No Is Question Mandatory : No Calculator : None Response Time : N.A Think Time : N.A Minimum Instruction Time : 0**

**Correct Marks : 5 Wrong Marks : 1**

**Question Key Details :**

Key	Value
Comprehension	MCQ

Laterite soil is formed due to intense leaching. Red laterite soil in Kerala is more suitable for:

1. Wheat
2. Paddy
3. Cashew nut
4. Cotton

**Options :**

485584135753. 1  
485584135754. 2  
485584135755. 3  
485584135756. 4

**Question Number : 525 Question Id : 48558433940 Question Type : MCQ Option Shuffling : No Is Question Mandatory : No Calculator : None Response Time : N.A Think Time : N.A Minimum Instruction Time : 0**

**Correct Marks : 5 Wrong Marks : 1**

**Question Key Details :**

Key	Value
Comprehension	MCQ

Smallest planet of solar system is?

1. Venus
2. Mercury
3. Uranus
4. Neptune

**Options :**

485584135757. 1  
485584135758. 2  
485584135759. 3  
485584135760. 4

**Question Number : 526 Question Id : 48558433941 Question Type : MCQ Option Shuffling : No Is Question Mandatory : No Calculator : None Response Time : N.A Think Time : N.A Minimum Instruction Time : 0**

**Correct Marks : 5 Wrong Marks : 1**

**Question Key Details :**

Key	Value
Comprehension	MCQ

The number of seats for Lok Sabha from Himachal Pradesh is:

1. 4
2. 14
3. 24
4. 5

**Options :**

485584135761. 1  
485584135762. 2  
485584135763. 3  
485584135764. 4

**Question Number : 527 Question Id : 48558433942 Question Type : MCQ Option Shuffling : No Is Question Mandatory : No Calculator : None Response Time : N.A Think Time : N.A Minimum Instruction Time : 0**

**Correct Marks : 5 Wrong Marks : 1**

**Question Key Details :**

Key	Value
Comprehension	MCQ



Which of the following generates maximum employment in India?

1. Secondary section
2. Primary section
3. Railways
4. Tertiary section

**Options :**

485584135765. 1  
485584135766. 2  
485584135767. 3  
485584135768. 4

**Question Number : 528 Question Id : 48558433943 Question Type : MCQ Option Shuffling : No Is Question Mandatory : No Calculator : None Response Time : N.A Think Time : N.A Minimum Instruction Time : 0**

**Correct Marks : 5 Wrong Marks : 1**

**Question Key Details :**

Key	Value
Comprehension	MCQ

The book "Mind Master: Winning Lessons from a Champion's Life" is about whom amongst the following?

1. Viswanathan Anand
2. M.S. Dhoni
3. Virat Kohli
4. Sachin Tendulkar

**Options :**

485584135769. 1  
485584135770. 2  
485584135771. 3  
485584135772. 4

**Question Number : 529 Question Id : 48558433944 Question Type : MCQ Option Shuffling : No Is Question Mandatory : No Calculator : None Response Time : N.A Think Time : N.A Minimum Instruction Time : 0**

**Correct Marks : 5 Wrong Marks : 1**

**Question Key Details :**

Key	Value
Comprehension	MCQ

The place where ISRO organised 'Human Spaceflight Expo'?

1. Ahmedabad
2. Bengaluru
3. Thiruvananthapuram
4. Mumbai

**Options :**

485584135773. 1  
485584135774. 2  
485584135775. 3  
485584135776. 4

**Question Number : 530 Question Id : 48558433945 Question Type : MCQ Option Shuffling : No Is Question Mandatory : No Calculator : None Response Time : N.A Think Time : N.A Minimum Instruction Time : 0**

**Correct Marks : 5 Wrong Marks : 1**

**Question Key Details :**

Key	Value
Comprehension	MCQ

Who among the following used the term 'Green Revolution' for increasing agricultural production in India?

1. Norman Borlaug
2. M.S. Swaminathan
3. Raj Krishna
4. R.K.V. Rao

**Options :**

485584135777. 1  
485584135778. 2  
485584135779. 3  
485584135780. 4

## Urdu

<b>Group Number :</b>	14
<b>Group Id :</b>	485584752
<b>Group Maximum Duration :</b>	45
<b>Group Minimum Duration :</b>	45
<b>Show Attended Group? :</b>	No
<b>Edit Attended Group? :</b>	No
<b>Break time :</b>	0
<b>Group Marks :</b>	200
<b>Is this Group for Examiner? :</b>	No
<b>Examiner permission :</b>	Cant View
<b>Show Progress Bar? :</b>	No

## Urdu

<b>Section Id :</b>	485584870
<b>Section Number :</b>	1
<b>Section type :</b>	Online
<b>Mandatory or Optional :</b>	Mandatory
<b>Number of Questions :</b>	50
<b>Number of Questions to be attempted :</b>	40
<b>Section Marks :</b>	200
<b>Enable Mark as Answered Mark for Review and Clear Response :</b>	Yes
<b>Maximum Instruction Time :</b>	0
<b>Sub-Section Number :</b>	1
<b>Sub-Section Id :</b>	4855842449
<b>Question Shuffling Allowed :</b>	No
<b>Is Section Default? :</b>	null
<b>Sub-Section Number :</b>	2
<b>Sub-Section Id :</b>	4855842450
<b>Question Shuffling Allowed :</b>	Yes
<b>Is Section Default? :</b>	null
<b>Sub-Section Number :</b>	3
<b>Sub-Section Id :</b>	4855842451
<b>Question Shuffling Allowed :</b>	No
<b>Is Section Default? :</b>	null
<b>Sub-Section Number :</b>	4
<b>Sub-Section Id :</b>	4855842452
<b>Question Shuffling Allowed :</b>	No
<b>Is Section Default? :</b>	null
<b>Sub-Section Number :</b>	5
<b>Sub-Section Id :</b>	4855842453
<b>Question Shuffling Allowed :</b>	Yes
<b>Is Section Default? :</b>	null