

National Testing Agency

Question Paper Name : 18S1
Subject Name : 18Jun2023 Shift1 Subject Combination 1
Creation Date : 2023-06-18 15:55:18
Duration : 645
Total Marks : 2850
Display Marks: Yes

English

Group Number : 1
Group Id : 485584739
Group Maximum Duration : 45
Group Minimum Duration : 45
Show Attended Group? : No
Edit Attended Group? : No
Break time : 0
Group Marks : 200
Is this Group for Examiner? : No
Examiner permission : Cant View
Show Progress Bar? : No

English

Section Id : 485584853
Section Number : 1
Section type : Online
Mandatory or Optional : Mandatory
Number of Questions : 50
Number of Questions to be attempted : 40
Section Marks : 200
Enable Mark as Answered Mark for Review and Clear Response : Yes
Maximum Instruction Time : 0
Sub-Section Number : 1
Sub-Section Id : 4855842402
Question Shuffling Allowed : No
Is Section Default? : null

**Question Number : 1 Question Id : 48558433166 Question Type : MCQ Option Shuffling : No Is Question Mandatory : No
Calculator : None Response Time : N.A Think Time : N.A Minimum Instruction Time : 0**

Correct Marks : 5 Wrong Marks : 1

Question Key Details :

Key	Value
Comprehension	Comp1

Unquestionably a literary life is for the most part an unhappy life; because, if you have genius, you must suffer the penalty of genius; and if you have only talent, there are so many cares and worries incidental to the circumstances of men of letters, as to make life exceedingly miserable. Besides the pangs of composition, and the continuous disappointment which a trues artist feels at his inability to reveal himself, there is the ever-recurring difficulty of gaining the public ear. Young writers are buoyed up by the hope and the belief that they have only to print to be acknowledged at once as a new light in literature. You can never convince a young author that the editors of magazines and the publishers of books are a practical body of men, who are by no means frantically anxious about placing the best literature before the public. Nay, that for the most part they are mere brokers, who conduct their business on the hardest lines of a Profit and Loss account. But supposing your book fairly launches, its perils, are only beginning. You have to run the gauntlet of the critics. To a young author, again, this seems to be as terrible on ordeal as passing down the files of Sioux or Comanche Indians, each one of whom is thirsting for your scalp. When you are a little older, you will find that criticism is not much more serious than the bye-play of clowns in a circus, when they beat around the ring the victim with bladders slung at the end of long poles. A time comes in the life of every author when he regards critics as comical rather than formidable, and goes his way unheeding. But there are sensitive souls that yield under the chastisement and, perhaps after suffering much silent torture, abandon the profession of the pen for ever, Keats, perhaps, is the saddest example of a fine spirit hounded to death by savage criticism; because, whatever his biographers may aver, that furious attack of Gifford and Terry undoubtedly expediated his death. But no doubt there are hundreds who suffer keenly hostile and unscrupulous criticism, and who have to bear that suffering in silence, because it is a cardinal principle in literature that the most unwise thing in the world for an author is to take public notice of criticism in the way of defending himself. Silence is the only safeguard, as it is the only dignified protest against insult and offence.

Why is the literary life mostly an unhappy one?

1. Most people don't understand literary people
2. They have to suffer the penalty of genius
3. Literary life is not about richness
4. They do not get the publishers easily

Options :

- 485584132661. 1
- 485584132662. 2
- 485584132663. 3
- 485584132664. 4

Question Number : 2 Question Id : 48558433167 Question Type : MCQ Option Shuffling : No Is Question Mandatory : No Calculator : None Response Time : N.A Think Time : N.A Minimum Instruction Time : 0

Correct Marks : 5 Wrong Marks : 1

Question Key Details :

Key	Value
Comprehension	Comp1

Unquestionably a literary life is for the most part an unhappy life; because, if you have genius, you must suffer the penalty of genius; and if you have only talent, there are so many cares and worries incidental to the circumstances of men of letters, as to make life exceedingly miserable. Besides the pangs of composition, and the continuous disappointment which a trues artist feels at his inability to reveal himself, there is the ever-recurring difficulty of gaining the public ear. Young writers are buoyed up by the hope and the belief that they have only to print to be acknowledged at once as a new light in literature. You can never convince a young author that the editors of magazines and the publishers of books are a practical body of men, who are by no means frantically anxious about placing the best literature before the public. Nay, that for the most part they are mere brokers, who conduct their business on the hardest lines of a Profit and Loss account. But supposing your book fairly launches, its perils, are only beginning. You have to run the gauntlet of the critics. To a young author, again, this seems to be as terrible on ordeal as passing down the files of Sioux or Comanche Indians, each one of whom is thirsting for your scalp. When you are a little older, you will find that criticism is not much more serious than the bye-play of clowns in a circus, when they beat around the ring the victim with bladders slung at the end of long poles. A time comes in the life of every author when he regards critics as comical rather than formidable, and goes his way unheeding. But there are sensitive souls that yield under the chastisement and, perhaps after suffering much silent torture, abandon the profession of the pen for ever, Keats, perhaps, is the saddest example of a fine spirit hounded to death by savage criticism; because, whatever his biographers may aver, that furious attack of Gifford and Terry undoubtedly expediated his death. But no doubt there are hundreds who suffer keenly hostile and unscrupulous criticism, and who have to bear that suffering in silence, because it is a cardinal principle in literature that the most unwise thing in the world for an author is to take public notice of criticism in the way of defending himself. Silence is the only safeguard, as it is the only dignified protest against insult and offence.

What is the ambition of a young author?

1. To create big name in the literary world
2. To achieve name and fame instantly
3. To create a big dent in the knowledge world
4. To dislodge other big names in the literary world

Options :

- 485584132665. 1
- 485584132666. 2
- 485584132667. 3
- 485584132668. 4

Question Number : 3 Question Id : 48558433168 Question Type : MCQ Option Shuffling : No Is Question Mandatory : No Calculator : None Response Time : N.A Think Time : N.A Minimum Instruction Time : 0

Correct Marks : 5 Wrong Marks : 1

Question Key Details :

Key	Value
Comprehension	Comp1

Unquestionably a literary life is for the most part an unhappy life; because, if you have genius, you must suffer the penalty of genius; and if you have only talent, there are so many cares and worries incidental to the circumstances of men of letters, as to make life exceedingly miserable. Besides the pangs of composition, and the continuous disappointment which a trues artist feels at his inability to reveal himself, there is the ever-recurring difficulty of gaining the public ear. Young writers are buoyed up by the hope and the belief that they have only to print to be acknowledged at once as a new light in literature. You can never convince a young author that the editors of magazines and the publishers of books are a practical body of men, who are by no means frantically anxious about placing the best literature before the public. Nay, that for the most part they are mere brokers, who conduct their business on the hardest lines of a Profit and Loss account. But supposing your book fairly launches, its perils, are only beginning. You have to run the gauntlet of the critics. To a young author, again, this seems to be as terrible on ordeal as passing down the files of Sioux or Comanche Indians, each one of whom is thirsting for your scalp. When you are a little older, you will find that criticism is not much more serious than the bye-play of clowns in a circus, when they beat around the ring the victim with bladders slung at the end of long poles. A time comes in the life of every author when he regards critics as comical rather than formidable, and goes his way unheeding. But there are sensitive souls that yield under the chastisement and, perhaps after suffering much silent torture, abandon the profession of the pen for ever, Keats, perhaps, is the saddest example of a fine spirit hounded to death by savage criticism; because, whatever his biographers may aver, that furious attack of Gifford and Terry undoubtedly expediated his death. But no doubt there are hundreds who suffer keenly hostile and unscrupulous criticism, and who have to bear that suffering in silence, because it is a cardinal principle in literature that the most unwise thing in the world for an author is to take public notice of criticism in the way of defending himself. Silence is the only safeguard, as it is the only dignified protest against insult and offence.

What is the general response of the editors and publishers towards young authors?

1. They are very sympathetic
2. They are very hostile
3. They are very welcoming
4. They are highly indifferent

Options :

- 485584132669. 1
- 485584132670. 2
- 485584132671. 3
- 485584132672. 4

Question Number : 4 Question Id : 48558433169 Question Type : MCQ Option Shuffling : No Is Question Mandatory : No Calculator : None Response Time : N.A Think Time : N.A Minimum Instruction Time : 0

Correct Marks : 5 Wrong Marks : 1

Question Key Details :

Key	Value
Comprehension	Comp1

Unquestionably a literary life is for the most part an unhappy life; because, if you have genius, you must suffer the penalty of genius; and if you have only talent, there are so many cares and worries incidental to the circumstances of men of letters, as to make life exceedingly miserable. Besides the pangs of composition, and the continuous disappointment which a trues artist feels at his inability to reveal himself, there is the ever-recurring difficulty of gaining the public ear. Young writers are buoyed up by the hope and the belief that they have only to print to be acknowledged at once as a new light in literature. You can never convince a young author that the editors of magazines and the publishers of books are a practical body of men, who are by no means frantically anxious about placing the best literature before the public. Nay, that for the most part they are mere brokers, who conduct their business on the hardest lines of a Profit and Loss account. But supposing your book fairly launches, its perils, are only beginning. You have to run the gauntlet of the critics. To a young author, again, this seems to be as terrible on ordeal as passing down the files of Sioux or Comanche Indians, each one of whom is thirsting for your scalp. When you are a little older, you will find that criticism is not much more serious than the bye-play of clowns in a circus, when they beat around the ring the victim with bladders slung at the end of long poles. A time comes in the life of every author when he regards critics as comical rather than formidable, and goes his way unheeding. But there are sensitive souls that yield under the chastisement and, perhaps after suffering much silent torture, abandon the profession of the pen for ever, Keats, perhaps, is the saddest example of a fine spirit hounded to death by savage criticism; because, whatever his biographers may aver, that furious attack of Gifford and Terry undoubtedly expediated his death. But no doubt there are hundreds who suffer keenly hostile and unscrupulous criticism, and who have to bear that suffering in silence, because it is a cardinal principle in literature that the most unwise thing in the world for an author is to take public notice of criticism in the way of defending himself. Silence is the only safeguard, as it is the only dignified protest against insult and offence.

What attitude should an author adopt in the face of bitter critics?

1. All criticism should be accepted nicely.
2. All criticism should be rejected.
3. All criticism should be written about.
4. Silence is the best response.

Options :

- 485584132673. 1
- 485584132674. 2
- 485584132675. 3
- 485584132676. 4

Question Number : 5 Question Id : 48558433170 Question Type : MCQ Option Shuffling : No Is Question Mandatory : No Calculator : None Response Time : N.A Think Time : N.A Minimum Instruction Time : 0

Correct Marks : 5 Wrong Marks : 1

Question Key Details :

Key	Value
Comprehension	Comp1

Unquestionably a literary life is for the most part an unhappy life; because, if you have genius, you must suffer the penalty of genius; and if you have only talent, there are so many cares and worries incidental to the circumstances of men of letters, as to make life exceedingly miserable. Besides the pangs of composition, and the continuous disappointment which a trues artist feels at his inability to reveal himself, there is the ever-recurring difficulty of gaining the public ear. Young writers are buoyed up by the hope and the belief that they have only to print to be acknowledged at once as a new light in literature. You can never convince a young author that the editors of magazines and the publishers of books are a practical body of men, who are by no means frantically anxious about placing the best literature before the public. Nay, that for the most part they are mere brokers, who conduct their business on the hardest lines of a Profit and Loss account. But supposing your book fairly launches, its perils, are only beginning. You have to run the gauntlet of the critics. To a young author, again, this seems to be as terrible on ordeal as passing down the files of Sioux or Comanche Indians, each one of whom is thirsting for your scalp. When you are a little older, you will find that criticism is not much more serious than the bye-play of clowns in a circus, when they beat around the ring the victim with bladders slung at the end of long poles. A time comes in the life of every author when he regards critics as comical rather than formidable, and goes his way unheeding. But there are sensitive souls that yield under the chastisement and, perhaps after suffering much silent torture, abandon the profession of the pen for ever, Keats, perhaps, is the saddest example of a fine spirit hounded to death by savage criticism; because, whatever his biographers may aver, that furious attack of Gifford and Terry undoubtedly expediated his death. But no doubt there are hundreds who suffer keenly hostile and unscrupulous criticism, and who have to bear that suffering in silence, because it is a cardinal principle in literature that the most unwise thing in the world for an author is to take public notice of criticism in the way of defending himself. Silence is the only safeguard, as it is the only dignified protest against insult and offence.

Explain "Abandon the profession of pen"

1. Publishing sector
2. literary life
3. Pen-making Industry
4. The world of critics

Options :

- 485584132677. 1
- 485584132678. 2
- 485584132679. 3
- 485584132680. 4

Sub-Section Number : 2
Sub-Section Id : 4855842403
Question Shuffling Allowed : No
Is Section Default? : null

Question Number : 6 Question Id : 48558433171 Question Type : MCQ Option Shuffling : No Is Question Mandatory : No Calculator : None Response Time : N.A Think Time : N.A Minimum Instruction Time : 0

Correct Marks : 5 Wrong Marks : 1

Question Key Details :

Key	Value
Comprehension	Comp2

Organisms change over time. Some of these changes make no difference to the success or failure of the organism that inherit them; other changes do. Take a group of antelopes in which one individual has longer legs than its siblings. Those longer legs make the individual better at escaping from predators, hence giving it an advantage in the survival stakes. Its descendants inherit this feature and are better able to survive as a consequence. Those longer legs have thus become an 'adaptation' Their evolution means that this particular lineage of ante lopes has adapted to its conditions, thanks to its development of this features. Their evolution means that this particular lineage of ante lopes

Over the generations, the individual components of the genetic code within a species change, or mutate. So far as we know, mutations mny provide no evolutionary advantage at all. They may be disadvantageous, in which case they are weeded out via natural selection; or they may be advantageous, in which case they persist through the generations.

Choose the most appropriate meaning of the given word:

MUTATION

1. undergo a change in the genetic code
2. transform into another organism
3. a rupture in the organism's growth
4. rapid change in the bone structure of the organism

Options :

- 485584132681. 1
- 485584132682. 2
- 485584132683. 3
- 485584132684. 4

Question Number : 7 Question Id : 48558433172 Question Type : MCQ Option Shuffling : No Is Question Mandatory : No Calculator : None Response Time : N.A Think Time : N.A Minimum Instruction Time : 0

Correct Marks : 5 Wrong Marks : 1

Question Key Details :

Key	Value
Comprehension	Comp2

Organisms change over time. Some of these changes make no difference to the success or failure of the organism that inherit them; other changes do. Take a group of antelopes in which one individual has longer legs than its siblings. Those longer legs make the individual better at escaping from predators, hence giving it an advantage in the survival stakes. Its descendants inherit this feature and are better able to survive as a consequence. Those longer legs have thus become an 'adaptation' Their evolution means that this particular lineage of ante lopes has adapted to its conditions, thanks to its development of this features. Their evolution means that this particular lineage of ante lopes

Over the generations, the individual components of the genetic code within a species change, or mutate. So far as we know, mutations mny provide no evolutionary advantage at all. They may be disadvantageous, in which case they are weeded out via natural selection; or they may be advantageous, in which case they persist through the generations.

Choose the most appropriate answer to the following question.
How have antelopes adopted to get better at escaping from predators?

1. The long legs of the antelopes help them run faster and have become an adaptations
2. Their horns help them defeat predators
3. They have no advantageous mutations
4. They have a keen sense of smell

Options :

- 485584132685. 1
- 485584132686. 2
- 485584132687. 3
- 485584132688. 4

Question Number : 8 Question Id : 48558433173 Question Type : MCQ Option Shuffling : No Is Question Mandatory : No Calculator : None Response Time : N.A Think Time : N.A Minimum Instruction Time : 0

Correct Marks : 5 Wrong Marks : 1

Question Key Details :

Key	Value
Comprehension	Comp2

Organisms change over time. Some of these changes make no difference to the success or failure of the organism that inherit them; other changes do. Take a group of antelopes in which one individual has longer legs than its siblings. Those longer legs make the individual better at escaping from predators, hence giving it an advantage in the survival stakes. Its descendants inherit this feature and are better able to survive as a consequence. Those longer legs have thus become an 'adaptation' Their evolution means that this particular lineage of ante lopes has adapted to its conditions, thanks to its development of this features. Their evolution means that this particular lineage of ante lopes

Over the generations, the individual components of the genetic code within a species change, or mutate. So far as we know, mutations mny provide no evolutionary advantage at all. They may be disadvantageous, in which case they are weeded out via natural selection; or they may be advantageous, in which case they persist through the generations.

What happens to disadvantages mutations?

1. they are renewed through natural reduction
2. They persist through the generations
3. They remain an additional burden on the species
4. None of the above

Options :

- 485584132689. 1
- 485584132690. 2
- 485584132691. 3
- 485584132692. 4

Question Number : 9 Question Id : 48558433174 Question Type : MCQ Option Shuffling : No Is Question Mandatory : No Calculator : None Response Time : N.A Think Time : N.A Minimum Instruction Time : 0

Correct Marks : 5 Wrong Marks : 1

Question Key Details :

Key	Value
Comprehension	Comp2

Organisms change over time. Some of these changes make no difference to the success or failure of the organism that inherit them; other changes do. Take a group of antelopes in which one individual has longer legs than its siblings. Those longer legs make the individual better at escaping from predators, hence giving it an advantage in the survival stakes. Its descendants inherit this feature and are better able to survive as a consequence. Those longer legs have thus become an 'adaptation' Their evolution means that this particular lineage of ante lopes has adapted to its conditions, thanks to its development of this features. Their evolution means that this particular lineage of ante lopes

Over the generations, the individual components of the genetic code within a species change, or mutate. So far as we know, mutations mny provide no evolutionary advantage at all. They may be disadvantageous, in which case they are weeded out via natural selection; or they may be advantageous, in which case they persist through the generations.

Why do some mutations persist through generations?

1. They are harmful to the animal
2. They make no difference to the animal's survival
3. They are ornamental
4. They are advantageous to the animal

Options :

485584132693. 1

485584132694. 2

485584132695. 3

485584132696. 4

Question Number : 10 Question Id : 48558433175 Question Type : MCQ Option Shuffling : No Is Question Mandatory : No Calculator : None Response Time : N.A Think Time : N.A Minimum Instruction Time : 0

Correct Marks : 5 Wrong Marks : 1

Question Key Details :

Key	Value
Comprehension	Comp2

Organisms change over time. Some of these changes make no difference to the success or failure of the organism that inherit them; other changes do. Take a group of antelopes in which one individual has longer legs than its siblings. Those longer legs make the individual better at escaping from predators, hence giving it an advantage in the survival stakes. Its descendants inherit this feature and are better able to survive as a consequence. Those longer legs have thus become an 'adaptation' Their evolution means that this particular lineage of ante lopes has adapted to its conditions, thanks to its development of this features. Their evolution means that this particular lineage of ante lopes

Over the generations, the individual components of the genetic code within a species change, or mutate. So far as we know, mutations mny provide no evolutionary advantage at all. They may be disadvantageous, in which case they are weeded out via natural selection; or they may be advantageous, in which case they persist through the generations.

Choose an appropriate title for the passage from the following options:-

1. Adaptation and Mutation
2. Mutation: A Necessity
3. Genetic Code
4. Survival of the Antelope

Options :

- 485584132697. 1
- 485584132698. 2
- 485584132699. 3
- 485584132700. 4

Sub-Section Number : 3
Sub-Section Id : 4855842404
Question Shuffling Allowed : No
Is Section Default? : null

Question Number : 11 Question Id : 48558433176 Question Type : MCQ Option Shuffling : No Is Question Mandatory : No Calculator : None Response Time : N.A Think Time : N.A Minimum Instruction Time : 0

Correct Marks : 5 Wrong Marks : 1

Question Key Details :

Key	Value
Comprehension	Comp3

Supposing you have to make a payment of Rs.100, you can do so in rupees-coins; but it would be cumbersome to pay in nickel or copper coins, because they are heavy to carry and also because it takes much time to count them. The government therefore permits you to make the payment in rupee-notes. What are these rupee notes really? They are kind of money, right enough, although they are made of paper instead of metal. You can use them in just the same way that you use ordinary money. The reason why they are made of paper and used is that they save the trouble of carrying metal coins about-of course, paper is lighter than metal-and they also save using silver and other metals when they are scarce.

What makes these mere pieces of of paper bear the value of the number of rupees that is printed upon them? Why should a piece of paper, with "100" printed on it be worth twenty times as much as a piece of paper with "five" printed on it-and also worth a hundred times as much as a silver rupee-coin? The reason is that Government guarantees that the piece of paper is worth the amount printed an it and promised to pay that amount to any body who wishes to exchange this paper for the rupee-coins. Also, if you think about it you can easily realize that crores and crores more of rupee-coins would have to be minted, if all paper-money were abolished.

Perhaps you may ask, "Then why not have paper money only?" Why use silver and Nickle and copper at all? The answer is-because money must, as we have already said, be something so useful that everyone wants. Also because the metals are the best form of money; and thirdly because it would be impossible to print just the right amount of paper money that would keep prices at their proper natural level. It any Government prints too much paper money, then prices go up at once. The supply of money is increased and therefore its value (in food, clothes, books, houses, land, tools and everything else) goes down.

You may think at first that it is queer to talk of having too much paper money and the money is so nice and useful that you cannot have too much of it. But if you think that, I an afraid you are forgetting that money is only useful for what it will buy; so it is no good at all having more money if there are no more things to buy with it. The more money there is , the higher will be the prices of everything. The same thing happens with rupee-coins as with paper money. But it is not likely to happen, for this reason: it is very easy to print a great deal of paper money, but not at all easy to increase the amount there is if it keeps very steady and changes very little. In fact that is one of the chief reasons why it was chosen to make coins of.

The Government allows payment to be made in _____

1. nickel
2. rupee coins
3. copper coins
4. rupee notes

Options :

- 485584132701. 1
- 485584132702. 2
- 485584132703. 3
- 485584132704. 4

Question Number : 12 Question Id : 48558433177 Question Type : MCQ Option Shuffling : No Is Question Mandatory : No Calculator : None Response Time : N.A Think Time : N.A Minimum Instruction Time : 0

Correct Marks : 5 Wrong Marks : 1

Question Key Details :

Key	Value
Comprehension	Comp3

Supposing you have to make a payment of Rs.100, you can do so in rupees-coins; but it would be cumbersome to pay in nickel or copper coins, because they are heavy to carry and also because it takes much time to count them. The government therefore permits you to make the payment in rupee-notes. What are these rupee notes really? They are kind of money, right enough, although they are made of paper instead of metal. You can use them in just the same way that you use ordinary money. The reason why they are made of paper and used is that they save the trouble of carrying metal coins about-of course, paper is lighter than metal-and they also save using silver and other metals when they are scarce.

What makes these mere pieces of of paper bear the value of the number of rupees that is printed upon them? Why should a piece of paper, with "100" printed on it be worth twenty times as much as a piece of paper with "five" printed on it-and also worth a hundred times as much as a silver rupee-coin? The reason is that Government guarantees that the piece of paper is worth the amount printed an it and promised to pay that amount to any body who wishes to exchange this paper for the rupee-coins. Also, if you think about it you can easily realize that crores and crores more of rupee-coins would have to be minted, if all paper-money were abolished.

Perhaps you may ask, "Then why not have paper money only?" Why use silver and Nickle and copper at all? The answer is-because money must, as we have already said, be something so useful that everyone wants. Also because the metals are the best form of money; and thirdly because it would be impossible to print just the right amount of paper money that would keep prices at their proper natural level. If any Government prints too much paper money, then prices go up at once. The supply of money is increased and therefore its value (in food, clothes, books, houses, land, tools and everything else) goes down.

You may think at first that it is queer to talk of having too much paper money and the money is so nice and useful that you cannot have too much of it. But if you think that, I an afraid you are forgetting that money is only useful for what it will buy; so it is no good at all having more money if there are no more things to buy with it. The more money there is , the higher will be the prices of everything. The same thing happens with rupee-coins as with paper money. But it is not likely to happen, for this reason: it is very easy to print a great deal of paper money, but not at all easy to increase the amount there is if it keeps very steady and changes very little. In fact that is one of the chief reasons why it was chosen to make coins of.

What are these rupee notes made of?

1. coins
2. nickel
3. paper
4. copper coins

Options :

485584132705. 1
485584132706. 2
485584132707. 3
485584132708. 4

Question Number : 13 Question Id : 48558433178 Question Type : MCQ Option Shuffling : No Is Question Mandatory : No Calculator : None Response Time : N.A Think Time : N.A Minimum Instruction Time : 0

Correct Marks : 5 Wrong Marks : 1

Question Key Details :

Key	Value
Comprehension	Comp3

Supposing you have to make a payment of Rs.100, you can do so in rupees-coins; but it would be cumbersome to pay in nickel or copper coins, because they are heavy to carry and also because it takes much time to count them. The government therefore permits you to make the payment in rupee-notes. What are these rupee notes really? They are kind of money, right enough, although they are made of paper instead of metal. You can use them in just the same way that you use ordinary money. The reason why they are made of paper and used is that they save the trouble of carrying metal coins about-of course, paper is lighter than metal-and they also save using silver and other metals when they are scarce.

What makes these mere pieces of of paper bear the value of the number of rupees that is printed upon them? Why should a piece of paper, with "100" printed on it be worth twenty times as much as a piece of paper with "five" printed on it-and also worth a hundred times as much as a silver rupee-coin? The reason is that Government guarantees that the piece of paper is worth the amount printed an it and promised to pay that amount to any body who wishes to exchange this paper for the rupee-coins. Also, if you think about it you can easily realize that crores and crores more of rupee-coins would have to be minted, if all paper-money were abolished.

Perhaps you may ask, "Then why not have paper money only?" Why use silver and Nickle and copper at all? The answer is-because money must, as we have already said, be something so useful that everyone wants. Also because the metals are the best form of money; and thirdly because it would be impossible to print just the right amount of paper money that would keep prices at their proper natural level. If any Government prints too much paper money, then prices go up at once. The supply of money is increased and therefore its value (in food, clothes, books, houses, land, tools and everything else) goes down.

You may think at first that it is queer to talk of having too much paper money and the money is so nice and useful that you cannot have too much of it. But if you think that, I an afraid you are forgetting that money is only useful for what it will buy; so it is no good at all having more money if there are no more things to buy with it. The more money there is , the higher will be the prices of everything. The same thing happens with rupee-coins as with paper money. But it is not likely to happen, for this reason: it is very easy to print a great deal of paper money, but not at all easy to increase the amount there is if it keeps very steady and changes very little. In fact that is one of the chief reasons why it was chosen to make coins of.

_____ are the best form of money

1. paper-notes
2. metals
3. nickel coins
4. copper coins

Options :

- 485584132709. 1
- 485584132710. 2
- 485584132711. 3
- 485584132712. 4

Question Number : 14 Question Id : 48558433179 Question Type : MCQ Option Shuffling : No Is Question Mandatory : No Calculator : None Response Time : N.A Think Time : N.A Minimum Instruction Time : 0

Correct Marks : 5 Wrong Marks : 1

Question Key Details :

Key	Value
Comprehension	Comp3

Supposing you have to make a payment of Rs.100, you can do so in rupees-coins; but it would be cumbersome to pay in nickel or copper coins, because they are heavy to carry and also because it takes much time to count them. The government therefore permits you to make the payment in rupee-notes. What are these rupee notes really? They are kind of money, right enough, although they are made of paper instead of metal. You can use them in just the same way that you use ordinary money. The reason why they are made of paper and used is that they save the trouble of carrying metal coins about-of course, paper is lighter than metal-and they also save using silver and other metals when they are scarce.

What makes these mere pieces of of paper bear the value of the number of rupees that is printed upon them? Why should a piece of paper, with "100" printed on it be worth twenty times as much as a piece of paper with "five" printed on it-and also worth a hundred times as much as a silver rupee-coin? The reason is that Government guarantees that the piece of paper is worth the amount printed an it and promised to pay that amount to any body who wishes to exchange this paper for the rupee-coins. Also, if you think about it you can easily realize that crores and crores more of rupee-coins would have to be minted, if all paper-money were abolished.

Perhaps you may ask, "Then why not have paper money only?" Why use silver and Nickle and copper at all? The answer is-because money must, as we have already said, be something so useful that everyone wants. Also because the metals are the best form of money; and thirdly because it would be impossible to print just the right amount of paper money that would keep prices at their proper natural level. If any Government prints too much paper money, then prices go up at once. The supply of money is increased and therefore its value (in food, clothes, books, houses, land, tools and everything else) goes down.

You may think at first that it is queer to talk of having too much paper money and the money is so nice and useful that you cannot have too much of it. But if you think that, I an afraid you are forgetting that money is only useful for what it will buy; so it is no good at all having more money if there are no more things to buy with it. The more money there is , the higher will be the prices of everything. The same thing happens with rupee-coins as with paper money. But it is not likely to happen, for this reason: it is very easy to print a great deal of paper money, but not at all easy to increase the amount there is if it keeps very steady and changes very little. In fact that is one of the chief reasons why it was chosen to make coins of.

If the government prints too much paper money, then prices _____ at once

1. go up
2. go down
3. remain stable
4. don't change

Options :

- 485584132713. 1
- 485584132714. 2
- 485584132715. 3
- 485584132716. 4

Question Number : 15 Question Id : 48558433180 Question Type : MCQ Option Shuffling : No Is Question Mandatory : No Calculator : None Response Time : N.A Think Time : N.A Minimum Instruction Time : 0

Correct Marks : 5 Wrong Marks : 1

Question Key Details :

Key	Value
Comprehension	Comp3

Supposing you have to make a payment of Rs.100, you can do so in rupees-coins; but it would be cumbersome to pay in nickel or copper coins, because they are heavy to carry and also because it takes much time to count them. The government therefore permits you to make the payment in rupee-notes. What are these rupee notes really? They are kind of money, right enough, although they are made of paper instead of metal. You can use them in just the same way that you use ordinary money. The reason why they are made of paper and used is that they save the trouble of carrying metal coins about-of course, paper is lighter than metal-and they also save using silver and other metals when they are scarce.

What makes these mere pieces of of paper bear the value of the number of rupees that is printed upon them? Why should a piece of paper, with "100" printed on it be worth twenty times as much as a piece of paper with "five" printed on it-and also worth a hundred times as much as a silver rupee-coin? The reason is that Government guarantees that the piece of paper is worth the amount printed an it and promised to pay that amount to any body who wishes to exchange this paper for the rupee-coins. Also, if you think about it you can easily realize that crores and crores more of rupee-coins would have to be minted, if all paper-money were abolished.

Perhaps you may ask, "Then why not have paper money only?" Why use silver and Nickle and copper at all? The answer is-because money must, as we have already said, be something so useful that everyone wants. Also because the metals are the best form of money; and thirdly because it would be impossible to print just the right amount of paper money that would keep prices at their proper natural level. If any Government prints too much paper money, then prices go up at once. The supply of money is increased and therefore its value (in food, clothes, books, houses, land, tools and everything else) goes down.

You may think at first that it is queer to talk of having too much paper money and the money is so nice and useful that you cannot have too much of it. But if you think that, I an afraid you are forgetting that money is only useful for what it will buy; so it is no good at all having more money if there are no more things to buy with it. The more money there is , the higher will be the prices of everything. The same thing happens with rupee-coins as with paper money. But it is not likely to happen, for this reason: it is very easy to print a great deal of paper money, but not at all easy to increase the amount there is if it keeps very steady and changes very little. In fact that is one of the chief reasons why it was chosen to make coins of.

The more money there is _____ will be the prices of everything.

1. the lesser
2. the higher
3. the better
4. the worse

Options :

- 485584132717. 1
- 485584132718. 2
- 485584132719. 3
- 485584132720. 4

Sub-Section Number : 4
Sub-Section Id : 4855842405
Question Shuffling Allowed : Yes
Is Section Default? : null

Question Number : 16 Question Id : 48558433181 Question Type : MCQ Option Shuffling : No Is Question Mandatory : No Calculator : None Response Time : N.A Think Time : N.A Minimum Instruction Time : 0 Correct Marks : 5 Wrong Marks : 1

Question Key Details :

Key	Value
Comprehension	MCQ

Match List I with List II

Fill in the blanks with appropriate modals from in the sentences given in the list

LIST I		LIST II	
A.	_____ I go now?	I.	shall
B.	We _____ learn swimming	II.	can
C.	You _____ reach home before dark	III.	should
D.	We _____ discuss this matter tomorrow	IV.	ought to

Choose the correct answer from the options given below:

1. A-II, B-III, C-IV, D-I
2. A-I, B-II, C-III, D-IV
3. A-I, B-III, C-IV, D-I
4. A-III, B-IV, C-II, D-I

Options :

485584132721. 1
 485584132722. 2
 485584132723. 3
 485584132724. 4

Question Number : 17 Question Id : 48558433182 Question Type : MCQ Option Shuffling : No Is Question Mandatory : No Calculator : None Response Time : N.A Think Time : N.A Minimum Instruction Time : 0

Correct Marks : 5 Wrong Marks : 1

Question Key Details :

Key	Value
Comprehension	MCQ

Fill in the most appropriate modal from the given options

Measles _____ be quite dangerous

1. could
2. can
3. should
4. would

Options :

485584132725. 1
 485584132726. 2
 485584132727. 3
 485584132728. 4

Question Number : 18 Question Id : 48558433183 Question Type : MCQ Option Shuffling : No Is Question Mandatory : No Calculator : None Response Time : N.A Think Time : N.A Minimum Instruction Time : 0

Correct Marks : 5 Wrong Marks : 1

Question Key Details :

Key	Value
Comprehension	MCQ

Spot the error in the following sentence

1. It is often said that
2. some men are born great
3. some achieve greatness and
4. some had greatness threst on them

Options :

- 485584132729. 1
- 485584132730. 2
- 485584132731. 3
- 485584132732. 4

Question Number : 19 Question Id : 48558433184 Question Type : MCQ Option Shuffling : No Is Question Mandatory : No Calculator : None Response Time : N.A Think Time : N.A Minimum Instruction Time : 0

Correct Marks : 5 Wrong Marks : 1

Question Key Details :

Key	Value
Comprehension	MCQ

Change the voice of the following sentence from active to passive:

"I opened the window"

Choose the most appropriate option:

1. I was the one who opened option the window
2. The window was opened and I did it.
3. The window was by I.
4. The window was opened by me.

Options :

- 485584132733. 1
- 485584132734. 2
- 485584132735. 3
- 485584132736. 4

Question Number : 20 Question Id : 48558433185 Question Type : MCQ Option Shuffling : No Is Question Mandatory : No Calculator : None Response Time : N.A Think Time : N.A Minimum Instruction Time : 0

Correct Marks : 5 Wrong Marks : 1

Question Key Details :

Key	Value
Comprehension	MCQ

Change the voice of the following sentence from the passive to Active

"The essay was edited by the professor."

1. The professor found the essay and edited it.
2. The professor edited the essay.
3. The professor edited something which was the essay.
4. The professor was edited by the essay.

Options :

- 485584132737. 1
- 485584132738. 2
- 485584132739. 3
- 485584132740. 4

Question Number : 21 Question Id : 48558433186 Question Type : MCQ Option Shuffling : No Is Question Mandatory : No Calculator : None Response Time : N.A Think Time : N.A Minimum Instruction Time : 0

Correct Marks : 5 Wrong Marks : 1

Question Key Details :

Key	Value
Comprehension	MCQ

Choose the most appropriate meaning of the following foreign word: "nom de plume"

1. Plumage of a bird
2. Last resort
3. Pen-name
4. Method of operating

Options :

- 485584132741. 1
- 485584132742. 2
- 485584132743. 3
- 485584132744. 4

Question Number : 22 Question Id : 48558433187 Question Type : MCQ Option Shuffling : No Is Question Mandatory : No Calculator : None Response Time : N.A Think Time : N.A Minimum Instruction Time : 0

Correct Marks : 5 Wrong Marks : 1

Question Key Details :

Key	Value
Comprehension	MCQ

Match the words in List I with their meanings in List II

LIST I		LIST II	
A.	Mandate	I.	reward
B.	recompense	II.	comfort in time of distress
C.	Solace	III.	an official order to do something
D.	Tatters	IV.	torn pieces of cloth or paper

Choose the correct answer from the options given below:

1. A-I, B-II, C-IV, D-III
2. A-II, B-III, C-I, D-IV
3. A-III, B-I, C-II, D-IV
4. A-IV, B-III, C-II, D-I

Options :

485584132745. 1
485584132746. 2
485584132747. 3
485584132748. 4

Question Number : 23 Question Id : 48558433188 Question Type : MCQ Option Shuffling : No Is Question Mandatory : No Calculator : None Response Time : N.A Think Time : N.A Minimum Instruction Time : 0

Correct Marks : 5 Wrong Marks : 1

Question Key Details :

Key	Value
Comprehension	MCQ

Choose the most appropriate meaning of the following foreign word: "Papier mache"

1. Paper mixed with glue
2. Paper mixed with metal
3. Paper mixed with soil
4. Paper mixed with charcoal

Options :

485584132749. 1
485584132750. 2
485584132751. 3
485584132752. 4

Question Number : 24 Question Id : 48558433189 Question Type : MCQ Option Shuffling : No Is Question Mandatory : No Calculator : None Response Time : N.A Think Time : N.A Minimum Instruction Time : 0

Correct Marks : 5 Wrong Marks : 1

Question Key Details :

Key	Value
Comprehension	MCQ

Change the following sentence from Direct speech to Indirect Speech:
The coach promised, " If you will come before school tomorrow, I will teach it,"

Choose appropriate option.

1. The coach promised to meet me after school and teach it.
2. The coach promised that if came before school the next day, he would teach it to me.
3. The coach promised to come before school and teach it to me.
4. The coach promised that I will be thought before school if I came

Options :

- 485584132753. 1
- 485584132754. 2
- 485584132755. 3
- 485584132756. 4

Question Number : 25 Question Id : 48558433190 Question Type : MCQ Option Shuffling : No Is Question Mandatory : No Calculator : None Response Time : N.A Think Time : N.A Minimum Instruction Time : 0

Correct Marks : 5 Wrong Marks : 1

Question Key Details :

Key	Value
Comprehension	MCQ

Change the following sentence from Indirect speech to Direct Speech.

She said, "Bravo! You did better than last time"

Choose the most appropriate option:

1. She applauded him, saying that he had done better than last time.
2. She said bravo to him and pointed out that he had done better than last time.
3. She was happy that he had done better than last time.
4. She could not believe that he had done better than last time and said bravo to him.

Options :

- 485584132757. 1
- 485584132758. 2
- 485584132759. 3
- 485584132760. 4

Question Number : 26 Question Id : 48558433191 Question Type : MCQ Option Shuffling : No Is Question Mandatory : No Calculator : None Response Time : N.A Think Time : N.A Minimum Instruction Time : 0

Correct Marks : 5 Wrong Marks : 1

Question Key Details :

Key	Value
Comprehension	MCQ

Choose the most appropriate synonym for the following word: "Alarm"

1. Foresee
2. Sleep
3. Awake
4. Shock

Options :

485584132761. 1
485584132762. 2
485584132763. 3
485584132764. 4

Question Number : 27 Question Id : 48558433192 Question Type : MCQ Option Shuffling : No Is Question Mandatory : No Calculator : None Response Time : N.A Think Time : N.A Minimum Instruction Time : 0

Correct Marks : 5 Wrong Marks : 1

Question Key Details :

Key	Value
Comprehension	MCQ

Choose the best option to convert the given exclamatory sentence is to Assertive sentence:-

How stupid of me to forget your name!

1. It is stupid of me to forget your name
2. I wonder how can I be stupid to forget your name
3. I can never be stupid to forget your name
4. Forgetting your name is my stupid behaviour

Options :

485584132765. 1
485584132766. 2
485584132767. 3
485584132768. 4

Question Number : 28 Question Id : 48558433193 Question Type : MCQ Option Shuffling : No Is Question Mandatory : No Calculator : None Response Time : N.A Think Time : N.A Minimum Instruction Time : 0

Correct Marks : 5 Wrong Marks : 1

Question Key Details :

Key	Value
Comprehension	MCQ

Choose the best option to convert the given assertive sentence in to exclamatory sentence:-

I wish I knew more people here

1. If only I knew more people here!
2. Oh! I knew more people here.
3. What a pity to have known more people here!
4. Alas! I could have known more people here.

Options :

- 485584132769. 1
- 485584132770. 2
- 485584132771. 3
- 485584132772. 4

Question Number : 29 Question Id : 48558433194 Question Type : MCQ Option Shuffling : No Is Question Mandatory : No Calculator : None Response Time : N.A Think Time : N.A Minimum Instruction Time : 0

Correct Marks : 5 Wrong Marks : 1

Question Key Details :

Key	Value
Comprehension	MCQ

Match List I with List II

Fill in appropriate modals from list II in The sentences in List I.

LIST I		LIST II	
A.	No one _____ question the ways of God.	I.	Could
B.	How _____ you should at your parents?	II.	Would
C.	_____ you like to have breakfast with me?	III.	can
D.	We ____ respect our elders	IV.	ought to

Choose the correct answer from the options given below:

1. A-I, B-II, C-III, D-IV
2. A-II, B-III, C-I, D-IV
3. A-III, B-I, C-II, D-IV
4. A-IV, B-III, C-I, D-II

Options :

- 485584132773. 1
- 485584132774. 2
- 485584132775. 3
- 485584132776. 4

Question Number : 30 Question Id : 48558433195 Question Type : MCQ Option Shuffling : No Is Question Mandatory : No Calculator : None Response Time : N.A Think Time : N.A Minimum Instruction Time : 0

Correct Marks : 5 Wrong Marks : 1

Question Key Details :

Key	Value
Comprehension	MCQ

Fill in correct modals in the given sentence from the given options:-

I wish I _____ help you, but I have no money.

1. may
2. could
3. might
4. can

Options :

- 485584132777. 1
- 485584132778. 2
- 485584132779. 3
- 485584132780. 4

Question Number : 31 Question Id : 48558433196 Question Type : MCQ Option Shuffling : No Is Question Mandatory : No Calculator : None Response Time : N.A Think Time : N.A Minimum Instruction Time : 0

Correct Marks : 5 Wrong Marks : 1

Question Key Details :

Key	Value
Comprehension	MCQ

Which of the following is an appropriate subscription for a formal letter?

Choose from the options given below:

1. Yours sincerely
2. Yours lovingly
3. Yours forever
4. Your dear friend

Options :

- 485584132781. 1
- 485584132782. 2
- 485584132783. 3
- 485584132784. 4

Question Number : 32 Question Id : 48558433197 Question Type : MCQ Option Shuffling : No Is Question Mandatory : No Calculator : None Response Time : N.A Think Time : N.A Minimum Instruction Time : 0

Correct Marks : 5 Wrong Marks : 1

Question Key Details :

Key	Value
Comprehension	MCQ

Which of the following elements are Not found in informal letters?

Choose from the options given below:

1. Signature
2. Date
3. Salutation or Courteous greeting
4. Subject

Options :

- 485584132785. 1
- 485584132786. 2
- 485584132787. 3
- 485584132788. 4

Question Number : 33 Question Id : 48558433198 Question Type : MCQ Option Shuffling : No Is Question Mandatory : No Calculator : None Response Time : N.A Think Time : N.A Minimum Instruction Time : 0

Correct Marks : 5 Wrong Marks : 1

Question Key Details :

Key	Value
Comprehension	MCQ

Which of the following pair of words are not homonyms:

1. cite, site
2. pallet, palate
3. burn, burden
4. hear, here

Options :

- 485584132789. 1
- 485584132790. 2
- 485584132791. 3
- 485584132792. 4

Question Number : 34 Question Id : 48558433199 Question Type : MCQ Option Shuffling : No Is Question Mandatory : No Calculator : None Response Time : N.A Think Time : N.A Minimum Instruction Time : 0

Correct Marks : 5 Wrong Marks : 1

Question Key Details :

Key	Value
Comprehension	MCQ

Rearrange the following jumbled phrases into a coherent sentence

- A. A given trait whenever they are present
- B. Among heterogenous organisms,
- C. Meaning that they result in the expression of
- D. Some adults are dominant

- 1. ACDB
- 2. BDCA
- 3. DACB
- 4. CDAB

Options :

- 485584132793. 1
- 485584132794. 2
- 485584132795. 3
- 485584132796. 4

Question Number : 35 Question Id : 48558433200 Question Type : MCQ Option Shuffling : No Is Question Mandatory : No Calculator : None Response Time : N.A Think Time : N.A Minimum Instruction Time : 0

Correct Marks : 5 Wrong Marks : 1

Question Key Details :

Key	Value
Comprehension	MCQ

Rearrange the following jumbled phrases into a coherent sentence

- A. as Annu is senior than Susan
- B. though Susan had worked there before Annu
- C. Annu received the promotion instead of Susan
- D. in age

- 1. ABCD
- 2. DBAC
- 3. CADB
- 4. BACD

Options :

- 485584132797. 1
- 485584132798. 2
- 485584132799. 3
- 485584132800. 4

Question Number : 36 Question Id : 48558433201 Question Type : MCQ Option Shuffling : No Is Question Mandatory : No Calculator : None Response Time : N.A Think Time : N.A Minimum Instruction Time : 0

Correct Marks : 5 Wrong Marks : 1

Question Key Details :

Key	Value
Comprehension	MCQ

The given sentence is divided into three parts. Scan it carefully for errors and choose the most appropriate options

A) I found less | B) books in the| C) library than that

1. A only
2. B and C
3. C only
4. No error

Options :

- 485584132801. 1
- 485584132802. 2
- 485584132803. 3
- 485584132804. 4

Question Number : 37 Question Id : 48558433202 Question Type : MCQ Option Shuffling : No Is Question Mandatory : No Calculator : None Response Time : N.A Think Time : N.A Minimum Instruction Time : 0

Correct Marks : 5 Wrong Marks : 1

Question Key Details :

Key	Value
Comprehension	MCQ

The given sentence is divided into tissue parts. scan it carefully for errors and choose the most appropriate options

- A) Few persons
- B) are free
- C) from worries

1. A only
2. A and C
3. C only
4. No errors

Options :

- 485584132805. 1
- 485584132806. 2
- 485584132807. 3
- 485584132808. 4

Question Number : 38 Question Id : 48558433203 Question Type : MCQ Option Shuffling : No Is Question Mandatory : No Calculator : None Response Time : N.A Think Time : N.A Minimum Instruction Time : 0

Correct Marks : 5 Wrong Marks : 1

Question Key Details :

Key	Value
Comprehension	MCQ

Identify the option that demonstrates the most appropriate usage of an adjective clause.

1. She is senior and most intelligent than her friend.
2. Meera adopted a Two-years- old girl.
3. This tree is to big as the other tree.
4. She took a six-week course.

Options :

- 485584132809. 1
- 485584132810. 2
- 485584132811. 3
- 485584132812. 4

Question Number : 39 Question Id : 48558433204 Question Type : MCQ Option Shuffling : No Is Question Mandatory : No Calculator : None Response Time : N.A Think Time : N.A Minimum Instruction Time : 0

Correct Marks : 5 Wrong Marks : 1

Question Key Details :

Key	Value
Comprehension	MCQ

Choose the options which demonstrates an appropriate usage of articles.

1. She would make a better statesman than philosopher
2. She would make better statesman than philosopher
3. She would make a better statesman than a philosopher
4. She would makes better statesman than a philosopher

Options :

- 485584132813. 1
- 485584132814. 2
- 485584132815. 3
- 485584132816. 4

Question Number : 40 Question Id : 48558433205 Question Type : MCQ Option Shuffling : No Is Question Mandatory : No Calculator : None Response Time : N.A Think Time : N.A Minimum Instruction Time : 0

Correct Marks : 5 Wrong Marks : 1

Question Key Details :

Key	Value
Comprehension	MCQ

Which of the following sentences demonstrate appropriate use(s) of asterisks

1. The third and fourth chapter will be tested in exam
2. The third and fourth chapters will be tested in the exam
3. Third and fourth chapter will be tested in the exam
4. The third and fourth chapters will be tested in the exam

Options :

- 485584132817. 1
- 485584132818. 2
- 485584132819. 3
- 485584132820. 4

Question Number : 41 Question Id : 48558433206 Question Type : MCQ Option Shuffling : No Is Question Mandatory : No Calculator : None Response Time : N.A Think Time : N.A Minimum Instruction Time : 0

Correct Marks : 5 Wrong Marks : 1

Question Key Details :

Key	Value
Comprehension	MCQ

Fill in the blanks with the most appropriate adverbs.

Does she sing well? _____ she does

1. Yes
2. of course
3. I think
4. Certainly

Options :

- 485584132821. 1
- 485584132822. 2
- 485584132823. 3
- 485584132824. 4

Question Number : 42 Question Id : 48558433207 Question Type : MCQ Option Shuffling : No Is Question Mandatory : No Calculator : None Response Time : N.A Think Time : N.A Minimum Instruction Time : 0

Correct Marks : 5 Wrong Marks : 1

Question Key Details :

Key	Value
Comprehension	MCQ

Read the following sentence care. Some part of the sentence may have an error. Choose the most appropriate options.

Mumbai (A) | is New York (B) | of India (c)

1. A
2. B
3. C
4. No error

Options :

485584132825. 1
485584132826. 2
485584132827. 3
485584132828. 4

Question Number : 43 Question Id : 48558433208 Question Type : MCQ Option Shuffling : No Is Question Mandatory : No Calculator : None Response Time : N.A Think Time : N.A Minimum Instruction Time : 0

Correct Marks : 5 Wrong Marks : 1

Question Key Details :

Key	Value
Comprehension	MCQ

Match List I with List II

LIST I		LIST II	
A.	Wherefore	I.	adverb of reason
B.	seriously	II.	adverb of degree
C.	probably	III.	interrogative adverb
D.	consequently	IV.	adverb of affirmation

Choose the correct answer from the options given below:

1. A-IV, B-III, C-II, D-I
2. A-III, B-I, C-IV, D-II
3. A-III, B-II, C-IV, D-I
4. A-I, B-II, C-IV, D-IV

Options :

485584132829. 1
485584132830. 2
485584132831. 3
485584132832. 4

Question Number : 44 Question Id : 48558433209 Question Type : MCQ Option Shuffling : No Is Question Mandatory : No Calculator : None Response Time : N.A Think Time : N.A Minimum Instruction Time : 0

Correct Marks : 5 Wrong Marks : 1

Question Key Details :

Key	Value
Comprehension	MCQ

Rearrange the following sentences to form a coherent paragraph

- A. Because, if the manager's subordinates are inefficient and ineffective and are not helped to increase their efficiency and effectiveness, the task may not be achieved.
- B. This may be just as true as the responsibility for achieving prescribed tasks.
- C. If it is achieved at too great a cost, or at the risk of other effects many of which are less obvious.
- D. It is often said that one of the prime responsibilities of a manager is the training and development of staff

- 1. CBAD
- 2. DBAC
- 3. DCAB
- 4. CDAB

Options :

- 485584132833. 1
- 485584132834. 2
- 485584132835. 3
- 485584132836. 4

Question Number : 45 Question Id : 48558433210 Question Type : MCQ Option Shuffling : No Is Question Mandatory : No Calculator : None Response Time : N.A Think Time : N.A Minimum Instruction Time : 0

Correct Marks : 5 Wrong Marks : 1

Question Key Details :

Key	Value
Comprehension	MCQ

Choose the most appropriate antonym of the given word: UPROARIOUS

- 1. calm
- 2. Tumultuous
- 3. bleating
- 4. upright

Options :

- 485584132837. 1
- 485584132838. 2
- 485584132839. 3
- 485584132840. 4

Question Number : 46 Question Id : 48558433211 Question Type : MCQ Option Shuffling : No Is Question Mandatory : No Calculator : None Response Time : N.A Think Time : N.A Minimum Instruction Time : 0

Correct Marks : 5 Wrong Marks : 1

Question Key Details :

Key	Value
-----	-------

Match List I with List II Antonyms

LIST I		LIST II	
A.	luminous	I.	initially
B.	eventually	II.	supercilious
C.	subservient	III.	unholy
D.	sacrosant	IV.	dark

Choose the correct answer from the options given below:

1. A-IV, B-III, C-II, D-I
2. A-III, B-II, C-I, D-IV
3. A-IV, B-I, C-II, D-III
4. A-I, B-III, C-II, D-IV

Options :

485584132841. 1
 485584132842. 2
 485584132843. 3
 485584132844. 4

Question Number : 47 Question Id : 48558433212 Question Type : MCQ Option Shuffling : No Is Question Mandatory : No Calculator : None Response Time : N.A Think Time : N.A Minimum Instruction Time : 0

Correct Marks : 5 Wrong Marks : 1

Question Key Details :

Key	Value
Comprehension	MCQ

Fill in the blanks with the most appropriate prepositions

I prefer tea _____ coffee

1. with
2. to
3. over
4. of

Options :

485584132845. 1
 485584132846. 2
 485584132847. 3
 485584132848. 4

Question Number : 48 Question Id : 48558433213 Question Type : MCQ Option Shuffling : No Is Question Mandatory : No Calculator : None Response Time : N.A Think Time : N.A Minimum Instruction Time : 0

Correct Marks : 5 Wrong Marks : 1

Question Key Details :

Key	Value
Comprehension	MCQ

The soldiers were _____ war

1. at
2. in
3. on
4. of

Options :

485584132849. 1
 485584132850. 2
 485584132851. 3
 485584132852. 4

Question Number : 49 Question Id : 48558433214 Question Type : MCQ Option Shuffling : No Is Question Mandatory : No Calculator : None Response Time : N.A Think Time : N.A Minimum Instruction Time : 0

Correct Marks : 5 Wrong Marks : 1

Question Key Details :

Key	Value
Comprehension	MCQ

Match the phrasal words with most appropriate meaning

LIST I		LIST II	
A.	draw up	I.	make someone sad or depressed
B.	drag out	II.	prepare and write something
C.	drag down	III.	use a resource to do something
D.	draw on	IV.	make something longer than necessary

Choose the correct answer from the options given below:

1. A-II, B-IV, C-I, D-III
2. A-I, B-II, C-III, D-IV
3. A-II, B-IV, C-III, D-I
4. A-I, B-II, C-IV, D-III

Options :

485584132853. 1
 485584132854. 2
 485584132855. 3
 485584132856. 4

Question Number : 50 Question Id : 48558433215 Question Type : MCQ Option Shuffling : No Is Question Mandatory : No Calculator : None Response Time : N.A Think Time : N.A Minimum Instruction Time : 0

Correct Marks : 5 Wrong Marks : 1

Question Key Details :

Key	Value
Comprehension	MCQ

Match the idioms with most appropriate meaning

LIST I		LIST II	
A.	fish out of water	I.	good luck
B.	break a leg	II.	someone about whom very little is known
C.	leave in the lurch	III.	to be put in an unfamiliar situation
D.	dark horse	IV.	abandon someone in a difficult situation

Choose the correct answer from the options given below:

1. A-III, B-IV, C-II, D-I
2. A-III, B-I, C-IV, D-II
3. A-I, B-III, C-IV, D-II
4. A-II, B-I, C-I, D-IV

Options :

485584132857. 1
485584132858. 2
485584132859. 3
485584132860. 4

Hindi

Group Number :	2
Group Id :	485584740
Group Maximum Duration :	45
Group Minimum Duration :	45
Show Attended Group? :	No
Edit Attended Group? :	No
Break time :	0
Group Marks :	200
Is this Group for Examiner? :	No
Examiner permission :	Cant View
Show Progress Bar? :	No

Hindi

Section Id :	485584854
Section Number :	1
Section type :	Online
Mandatory or Optional :	Mandatory
Number of Questions :	50
Number of Questions to be attempted :	40
Section Marks :	200
Enable Mark as Answered Mark for Review and Clear Response :	Yes

Maximum Instruction Time :	0
Sub-Section Number :	1
Sub-Section Id :	4855842406
Question Shuffling Allowed :	No
Is Section Default? :	null
Sub-Section Number :	2
Sub-Section Id :	4855842407
Question Shuffling Allowed :	No
Is Section Default? :	null
Sub-Section Number :	3
Sub-Section Id :	4855842408
Question Shuffling Allowed :	No
Is Section Default? :	null
Sub-Section Number :	4
Sub-Section Id :	4855842409
Question Shuffling Allowed :	Yes
Is Section Default? :	null

Assamese

Group Number :	3
Group Id :	485584741
Group Maximum Duration :	45
Group Minimum Duration :	45
Show Attended Group? :	No
Edit Attended Group? :	No
Break time :	0
Group Marks :	200
Is this Group for Examiner? :	No
Examiner permission :	Cant View
Show Progress Bar? :	No

Assamese

Section Id :	485584855
Section Number :	1
Section type :	Online
Mandatory or Optional :	Mandatory
Number of Questions :	50
Number of Questions to be attempted :	40
Section Marks :	200
Enable Mark as Answered Mark for Review and Clear Response :	Yes
Maximum Instruction Time :	0
Sub-Section Number :	1
Sub-Section Id :	4855842410
Question Shuffling Allowed :	No
Is Section Default? :	null
Sub-Section Number :	2
Sub-Section Id :	4855842411
Question Shuffling Allowed :	No
Is Section Default? :	null
Sub-Section Number :	3

Sub-Section Id :	4855842412
Question Shuffling Allowed :	No
Is Section Default? :	null
Sub-Section Number :	4
Sub-Section Id :	4855842413
Question Shuffling Allowed :	Yes
Is Section Default? :	null

Kannada

Group Number :	4
Group Id :	485584742
Group Maximum Duration :	45
Group Minimum Duration :	45
Show Attended Group? :	No
Edit Attended Group? :	No
Break time :	0
Group Marks :	200
Is this Group for Examiner? :	No
Examiner permission :	Cant View
Show Progress Bar? :	No

Kannada

Section Id :	485584856
Section Number :	1
Section type :	Online
Mandatory or Optional :	Mandatory
Number of Questions :	50
Number of Questions to be attempted :	40
Section Marks :	200
Enable Mark as Answered Mark for Review and Clear Response :	Yes
Maximum Instruction Time :	0
Sub-Section Number :	1
Sub-Section Id :	4855842414
Question Shuffling Allowed :	No
Is Section Default? :	null
Sub-Section Number :	2
Sub-Section Id :	4855842415
Question Shuffling Allowed :	No
Is Section Default? :	null
Sub-Section Number :	3
Sub-Section Id :	4855842416
Question Shuffling Allowed :	No
Is Section Default? :	null
Sub-Section Number :	4
Sub-Section Id :	4855842417
Question Shuffling Allowed :	Yes
Is Section Default? :	null

Japanese

Group Number :	5
Group Id :	485584743
Group Maximum Duration :	45
Group Minimum Duration :	45
Show Attended Group? :	No
Edit Attended Group? :	No
Break time :	0
Group Marks :	200
Is this Group for Examiner? :	No
Examiner permission :	Cant View
Show Progress Bar? :	No

Japanese

Section Id :	485584857
Section Number :	1
Section type :	Online
Mandatory or Optional :	Mandatory
Number of Questions :	50
Number of Questions to be attempted :	40
Section Marks :	200
Enable Mark as Answered Mark for Review and Clear Response :	Yes
Maximum Instruction Time :	0
Sub-Section Number :	1
Sub-Section Id :	4855842418
Question Shuffling Allowed :	No
Is Section Default? :	null
Sub-Section Number :	2
Sub-Section Id :	4855842419
Question Shuffling Allowed :	No
Is Section Default? :	null
Sub-Section Number :	3
Sub-Section Id :	4855842420
Question Shuffling Allowed :	No
Is Section Default? :	null
Sub-Section Number :	4
Sub-Section Id :	4855842421
Question Shuffling Allowed :	Yes
Is Section Default? :	null

Entrepreneurship

Group Number :	6
Group Id :	485584744
Group Maximum Duration :	45
Group Minimum Duration :	45
Show Attended Group? :	No
Edit Attended Group? :	No
Break time :	0
Group Marks :	200

Is this Group for Examiner? : No
Examiner permission : Cant View
Show Progress Bar? : No

Entrepreneurship

Section Id : 485584858
Section Number : 1
Section type : Online
Mandatory or Optional : Mandatory
Number of Questions : 50
Number of Questions to be attempted : 40
Section Marks : 200
Enable Mark as Answered Mark for Review and Clear Response : Yes
Maximum Instruction Time : 0
Sub-Section Number : 1
Sub-Section Id : 4855842422
Question Shuffling Allowed : Yes
Is Section Default? : null

Question Number : 51 Question Id : 48558433466 Question Type : MCQ Option Shuffling : No Is Question Mandatory :
No Calculator : None Response Time : N.A Think Time : N.A Minimum Instruction Time : 0
Correct Marks : 5 Wrong Marks : 1

Question Key Details :

Key	Value
Comprehension	MCQ

Creativity process occurs in the following sequence:

- A. Illumination
- B. Preparation
- C. Verification
- D. Idea Germination
- E. Incubation

Choose the correct answer from the options given below:

1. B, A, D, C, E
2. D, B, E, A, C
3. B, D, A, E, C
4. A, C, D, B, E

Options :

- 485584133861. 1
- 485584133862. 2
- 485584133863. 3
- 485584133864. 4

Question Number : 51 Question Id : 48558433466 Question Type : MCQ Option Shuffling : No Is Question Mandatory :
No Calculator : None Response Time : N.A Think Time : N.A Minimum Instruction Time : 0
Correct Marks : 5 Wrong Marks : 1

Question Key Details :

Key	Value
Comprehension	MCQ

படைப்பாற்றல் செயல்முறைகளை பின்வரும் வரிசையில் அமைக்க:

- ஒளிருட்டுதல்
- தயாரித்தல்
- சரிபார்த்தல்
- கருத்து முளைத்தல்
- அடைகாத்தல்(அ) பதப்படுத்துதல்

கீழே தரப்பட்டுள்ள வாய்ப்புகளில் இருந்து சரியான விடையைத் தேர்ந்தெடுக்கவும்:

- B, A, D, C, E
- D, B, E, A, C
- B, D, A, E, C
- A, C, D, B, E

Options :

485584133861. 1
485584133862. 2
485584133863. 3
485584133864. 4

Question Number : 52 Question Id : 48558433467 Question Type : MCQ Option Shuffling : No Is Question Mandatory : No Calculator : None Response Time : N.A Think Time : N.A Minimum Instruction Time : 0

Correct Marks : 5 Wrong Marks : 1

Question Key Details :

Key	Value
Comprehension	MCQ

All ideas may not become a sound business opportunity. Therefore we need to assess the idea and opportunity by following a correct sequence. Rearrange the steps in the correct order.

- Level of operation
- Product identification
- Cost of production
- Competition
- Application and use

Choose the correct answer from the options given below:

- B, A, D, C, E
- B, E, A, C, D
- C, A, B, E, D
- B, E, A, D, C

Options :

485584133865. 1
485584133866. 2
485584133867. 3
485584133868. 4

Question Number : 52 Question Id : 48558433467 Question Type : MCQ Option Shuffling : No Is Question Mandatory : No Calculator : None Response Time : N.A Think Time : N.A Minimum Instruction Time : 0

Correct Marks : 5 Wrong Marks : 1

Question Key Details :

Key	Value
Comprehension	MCQ

அனைத்து கருத்துக்களும் வலுவானதொரு வணிக வாய்ப்பாக மாறமுடியாது. எனவே கருத்து மற்றும் வாய்ப்பு ஆகியவற்றை ஒரு சரியான தொடர் அடுக்கை பின்பற்றி நாம் அதனை பரிசீலனை செய்ய வேண்டும். படிநிலைகளை சரியான வரிசையில் மறுவரிசை படுத்துக:

- A. செயல்பாட்டு நிலை
- B. உற்பத்திப்பொருள் கண்டறிதல்
- C. உற்பத்தி செலவு
- D. போட்டி
- E. பயன்பாடு மற்றும் பயன்

கீழே தரப்பட்டுள்ள வாய்ப்புகளில் இருந்து சரியான விடையைத் தேர்ந்தெடுக்கவும்:

- 1. B, A, D, C, E
- 2. B, E, A, C, D
- 3. C, A, B, E, D
- 4. B, E, A, D, C

Options :

485584133865. 1
485584133866. 2
485584133867. 3
485584133868. 4

Question Number : 53 Question Id : 48558433468 Question Type : MCQ Option Shuffling : No Is Question Mandatory : No Calculator : None Response Time : N.A Think Time : N.A Minimum Instruction Time : 0

Correct Marks : 5 Wrong Marks : 1

Question Key Details :

Key	Value
Comprehension	MCQ

_____ are 'Convenient frames of reference for streamlining the process of generation of ideas'.

1. Reference fields
2. Idea generation
3. Idea fields
4. Product generation

Options :

485584133869. 1
485584133870. 2
485584133871. 3
485584133872. 4

Question Number : 53 Question Id : 48558433468 Question Type : MCQ Option Shuffling : No Is Question Mandatory : No Calculator : None Response Time : N.A Think Time : N.A Minimum Instruction Time : 0

Correct Marks : 5 Wrong Marks : 1

Question Key Details :

Key	Value
Comprehension	MCQ

கருத்துகளை உருவாக்கும் நடைமுறையை சீரமைப்பதற்கு கையாள
எளிதானதொரு பொருத்தமான வழிமுறைகள் _____.

1. பொருத்த துறைகள்
2. கருத்து உருவாக்கம்
3. கருத்து துறைகள்
4. உற்பத்திப்பொருள் உருவாக்கம்

Options :

485584133869. 1
485584133870. 2
485584133871. 3
485584133872. 4

Question Number : 54 Question Id : 48558433469 Question Type : MCQ Option Shuffling : No Is Question Mandatory : No Calculator : None Response Time : N.A Think Time : N.A Minimum Instruction Time : 0

Correct Marks : 5 Wrong Marks : 1

Question Key Details :

Key	Value
Comprehension	MCQ

While on a family outing to a nearby mall by the name of 'RB Mall', Mr. Harji saw that most people coming to the mall forgot their mask, and had to pay a fine ranging from ₹500 to ₹2000/-. So he decided to open a shop for selling mask at the mall entrance. Identify the trend:

1. Read Trend
2. See Trend
3. Watch Trend
4. Talk Trend

Options :

485584133873. 1
485584133874. 2
485584133875. 3
485584133876. 4

Question Number : 54 Question Id : 48558433469 Question Type : MCQ Option Shuffling : No Is Question Mandatory : No Calculator : None Response Time : N.A Think Time : N.A Minimum Instruction Time : 0

Correct Marks : 5 Wrong Marks : 1

Question Key Details :

Key	Value
Comprehension	MCQ

'RB மால்' என்ற பெயரில் அருகில் உள்ள ஒரு மாலுக்கு ஒரு குடும்பம் செல்லுகையில், திரு ஹார்ஜி அவர்கள், மாலுக்கு வரும் மக்கள் பெரும்பாலோர் முகக்கவசம் அணிந்துவர மறந்து விடுவதைப் பார்த்தார். மேலும் அவர்கள் ₹500 யிலிருந்து ₹2000/- வரையிலான அபராதக்கட்டணம் செலுத்துகின்றனர். எனவே அவர் மால் நுழைவாயிலில் முகக்கவசம் விற்கும் ஒரு கடையைத் துவங்க முடிவு செய்தார். அந்த எண்ணப்போக்கை அடையாளம் கண்டறிக:

1. படிக்கும் எண்ணப்போக்கு
2. பார்க்கும் எண்ணப்போக்கு
3. கூர்ந்து கவனிக்கும் எண்ணப்போக்கு
4. பேச்சு எண்ணப்போக்கு

Options :

485584133873. 1
485584133874. 2
485584133875. 3
485584133876. 4

Question Number : 55 Question Id : 48558433470 Question Type : MCQ Option Shuffling : No Is Question Mandatory : No Calculator : None Response Time : N.A Think Time : N.A Minimum Instruction Time : 0

Correct Marks : 5 Wrong Marks : 1

Question Key Details :

Key	Value
Comprehension	MCQ

'Mansukhbhai Prajapati thought of a non-stick pan made from clay and a clay refrigerator that works without electricity.' Which step of creative process is discussed above?

1. Preparation
2. Idea germination
3. Incubation
4. Illumination

Options :

485584133877. 1
485584133878. 2
485584133879. 3
485584133880. 4

Question Number : 55 Question Id : 48558433470 Question Type : MCQ Option Shuffling : No Is Question Mandatory : No Calculator : None Response Time : N.A Think Time : N.A Minimum Instruction Time : 0

Correct Marks : 5 Wrong Marks : 1

Question Key Details :

Key	Value
Comprehension	MCQ

மன்சுக்பாய் ப்ரஜாபதி என்பவர், மின்சாரம் இல்லாத வேலைசெய்யக் கூடியதொரு களிமண் குளிர்சாதனப்பெட்டி மற்றும் களிமண்ணால் ஆன ஒட்டாத தோசைக்கல் ஆகியவற்றை உருவாக்க எண்ணினார். மேலே விவாதிக்கப்பட்ட படைப்பு நடைமுறைப் படிநிலை எது?

1. தாயரித்தல்
2. சிந்தனை முளைத்தல்
3. அடைகாத்தல்(அ) பதப்படுத்துதல்
4. ஒளிநூட்டுதல்

Options :

485584133877. 1
485584133878. 2
485584133879. 3
485584133880. 4

Question Number : 56 Question Id : 48558433471 Question Type : MCQ Option Shuffling : No Is Question Mandatory : No Calculator : None Response Time : N.A Think Time : N.A Minimum Instruction Time : 0

Correct Marks : 5 Wrong Marks : 1

Question Key Details :

Key	Value
Comprehension	MCQ

In which type of opportunity assessment step, you examine an idea through finding out whether the product is present in use and you may think of modifying it for the better use?

1. Level of operation
2. Cost
3. Application and use
4. Competition

Options :

485584133881. 1
485584133882. 2
485584133883. 3
485584133884. 4

Question Number : 56 Question Id : 48558433471 Question Type : MCQ Option Shuffling : No Is Question Mandatory : No Calculator : None Response Time : N.A Think Time : N.A Minimum Instruction Time : 0

Correct Marks : 5 Wrong Marks : 1

Question Key Details :

Key	Value
Comprehension	MCQ

எந்த வகையான வாய்ப்பு மதிப்பீட்டு படிநிலை வகையில், ஒரு உற்பத்திப்பொருள், உபயோகத்தில் தற்போது உள்ளதா மற்றும் அதன் சிறந்த பயன்பாட்டிற்கு அதனை மாற்ற முடியுமா என்று சிந்தித்து முடிவெடுக்க, ஒரு கருத்தினை ஆராய்வது என்பது எதில் அடங்கும்?

1. செயலாற்று மட்டம் (அ) நிலை
2. செலவு
3. பயன் மற்றும் பயன்பாடு
4. போட்டி

Options :

485584133881. 1
485584133882. 2
485584133883. 3
485584133884. 4

Question Number : 57 Question Id : 48558433472 Question Type : MCQ Option Shuffling : No Is Question Mandatory : No Calculator : None Response Time : N.A Think Time : N.A Minimum Instruction Time : 0

Correct Marks : 5 Wrong Marks : 1

Question Key Details :

Key	Value
Comprehension	MCQ

Family dinner, Speciality Tourism, Career Counselling Centres and Ice-cream Parlours are a part of which idea field?

1. Creative Efforts
2. Trading related Ideas
3. Service Sector Ideas
4. Market Driven Ideas

Options :

485584133885. 1
485584133886. 2
485584133887. 3
485584133888. 4

Question Number : 57 Question Id : 48558433472 Question Type : MCQ Option Shuffling : No Is Question Mandatory : No Calculator : None Response Time : N.A Think Time : N.A Minimum Instruction Time : 0

Correct Marks : 5 Wrong Marks : 1

Question Key Details :

Key	Value
Comprehension	MCQ

எந்த வகையான வாய்ப்பு மதிப்பீட்டு படிநிலை வகையில், ஒரு உற்பத்திப்பொருள், உபயோகத்தில் தற்போது உள்ளதா மற்றும் அதன் சிறந்த பயன்பாட்டிற்கு அதனை மாற்ற முடியுமா என்று சிந்தித்து முடிவெடுக்க, ஒரு கருத்தினை ஆராய்வது என்பது எதில் அடங்கும்?

1. செயலாற்று மட்டம் (அ) நிலை
2. செலவு
3. பயன் மற்றும் பயன்பாடு
4. போட்டி

Options :

485584133885. 1
485584133886. 2
485584133887. 3
485584133888. 4

Question Number : 58 Question Id : 48558433473 Question Type : MCQ Option Shuffling : No Is Question Mandatory : No Calculator : None Response Time : N.A Think Time : N.A Minimum Instruction Time : 0

Correct Marks : 5 Wrong Marks : 1

Question Key Details :

Key	Value
Comprehension	MCQ

Avantika did a course in food preservation and decided to set up her own business of food preservation, canning, freezing and pickling. Identify the type of natural resource used by her:

1. Flowers
2. Medicinal Herbs
3. Citrus and other fruits
4. Horticulture

Options :

485584133889. 1
485584133890. 2
485584133891. 3
485584133892. 4

Question Number : 58 Question Id : 48558433473 Question Type : MCQ Option Shuffling : No Is Question Mandatory : No Calculator : None Response Time : N.A Think Time : N.A Minimum Instruction Time : 0

Correct Marks : 5 Wrong Marks : 1

Question Key Details :

Key	Value
Comprehension	MCQ

அவந்திகா உணவுப் பதனிடுதலுக்கான ஒரு படிப்பை படித்து முடித்தார். பிறகு அவர் தனக்கு சொந்தமான உணவு பதனிடுதல், பதப்படுத்துதல், குளிர் பதனிடுதல் மற்றும் ஊறவைத்தல் தொடர்பான வணிகத்தை நிறுவ முடிவு செய்தார். அவரால் பயன்படுத்தப்பட்ட இயற்கை வகை வளத்தைக் கண்டறிக:

1. மலர்கள்
2. மருத்துவ குணம் கொண்ட மூலிகைகள்
3. சிட்ரஸ் மற்றும் பிற பழங்கள்
4. தோட்டக்கலை

Options :

485584133889. 1
485584133890. 2
485584133891. 3
485584133892. 4

Question Number : 59 Question Id : 48558433474 Question Type : MCQ Option Shuffling : No Is Question Mandatory : No Calculator : None Response Time : N.A Think Time : N.A Minimum Instruction Time : 0

Correct Marks : 5 Wrong Marks : 1

Question Key Details :

Key	Value
Comprehension	MCQ

Identify the term related with concept of "gain generated on an investment relative to the amount of money invested by the shareholder".

1. Returns on Investment
2. Capital Gain
3. Return on Equity
4. Economic Order Quantity

Options :

485584133893. 1
485584133894. 2
485584133895. 3
485584133896. 4

Question Number : 59 Question Id : 48558433474 Question Type : MCQ Option Shuffling : No Is Question Mandatory : No Calculator : None Response Time : N.A Think Time : N.A Minimum Instruction Time : 0

Correct Marks : 5 Wrong Marks : 1

Question Key Details :

Key	Value
Comprehension	MCQ

"ஒரு பங்குதாரர் முதலீடு செய்த பணத்தொகைக்கு முதலீட்டிலிருந்து உருவாக்கப்படும் லாபம்" என்ற கருத்துருவோடு தொடர்புடைய பதத்தைக் கண்டறிக:

1. முதலீடு மீதான ஆதாயங்கள்
2. மூலதன லாபம்
3. பங்கு மீதான ஆதாயம்
4. பொருளாதார (அ) சிக்கன ஆர்டர் அளவு

Options :

485584133893. 1
485584133894. 2
485584133895. 3
485584133896. 4

Question Number : 60 Question Id : 48558433475 Question Type : MCQ Option Shuffling : No Is Question Mandatory : No Calculator : None Response Time : N.A Think Time : N.A Minimum Instruction Time : 0

Correct Marks : 5 Wrong Marks : 1

Question Key Details :

Key	Value
Comprehension	MCQ

Shreya has prepared her business plan and is stuck at the marketing plan for her enterprise. Suggest correct steps to her for marketing plan.

- A. Business Situation Analysis
- B. Define marketing Strategy
- C. Conduct SWOT Analysis
- D. Identify the target Market
- E. Establish goals

Choose the correct answer from the options given below:

- 1. A—B—C—D—E
- 2. A—D—C—E—B
- 3. A—C—D—E—B
- 4. A—D—C—B—E

Options :

- 485584133897. 1
- 485584133898. 2
- 485584133899. 3
- 485584133900. 4

Question Number : 60 Question Id : 48558433475 Question Type : MCQ Option Shuffling : No Is Question Mandatory : No Calculator : None Response Time : N.A Think Time : N.A Minimum Instruction Time : 0

Correct Marks : 5 Wrong Marks : 1

Question Key Details :

Key	Value
Comprehension	MCQ

ஸ்ரேயா தனது வணிகத் திட்டத்தை தயார் செய்துள்ளார். மேலும் அவர், தனது நிறுவனத்திற்கான சந்தையீடு திட்டத்தில் சிக்கிக் கொண்டுள்ளார். சந்தையிட திட்டத்திற்கான சரியான படிநிலைகளை அவருக்கு பரிந்துரைக்கவும்.

- A. வணிக நிலவர பகுப்பாய்வு
- B. சந்தையீடு உத்தியை வரையறுத்தல்
- C. SWOT பகுப்பாய்வை நடத்துதல்
- D. இலக்கு சந்தையைக் கண்டறிதல்
- E. இலக்குகளை அமைத்தல்

கீழே தரப்பட்டுள்ள வாய்ப்புகளில் இருந்து சரியான விடையைத் தேர்ந்தெடுக்கவும்:

- 1. A—B—C—D—E
- 2. A—D—C—E—B
- 3. A—C—D—E—B
- 4. A—D—C—B—E

Options :

- 485584133897. 1
- 485584133898. 2

485584133899. 3

485584133900. 4

Question Number : 61 Question Id : 48558433476 Question Type : MCQ Option Shuffling : No Is Question Mandatory : No Calculator : None Response Time : N.A Think Time : N.A Minimum Instruction Time : 0

Correct Marks : 5 Wrong Marks : 1

Question Key Details :

Key	Value
Comprehension	MCQ

"Thinking in advance, what is to be done, when it is to be done, how to be done and by whom it should be done," defines

1. Problem Solving
2. Decision Making
3. Planning
4. Spotting opportunity

Options :

485584133901. 1

485584133902. 2

485584133903. 3

485584133904. 4

Question Number : 61 Question Id : 48558433476 Question Type : MCQ Option Shuffling : No Is Question Mandatory : No Calculator : None Response Time : N.A Think Time : N.A Minimum Instruction Time : 0

Correct Marks : 5 Wrong Marks : 1

Question Key Details :

Key	Value
Comprehension	MCQ

"முன்னதாக யோசித்து, என்ன செய்ய வேண்டும், எப்பொழுது அதைச் செய்ய வேண்டும், எப்படிச் செய்ய வேண்டும் மற்றும் யாரைக் கொண்டு அதைச் செய்திட வேண்டும்" என்பது இதனை வரையறுக்கும்.

1. சிக்கல் தீர்த்தல்
2. முடிவு மேற்கொள்ளுதல்
3. திட்டமிடுதல்
4. வாய்ப்பைக் கண்டுகொள்ளல்

Options :

485584133901. 1

485584133902. 2

485584133903. 3

485584133904. 4

Question Number : 62 Question Id : 48558433477 Question Type : MCQ Option Shuffling : No Is Question Mandatory : No Calculator : None Response Time : N.A Think Time : N.A Minimum Instruction Time : 0

Correct Marks : 5 Wrong Marks : 1

Question Key Details :

Key	Value
Comprehension	MCQ

'How do we get there' question in marketing plan doesn't discuss:

1. The specific marketing strategy that will be implemented
2. When it will occur ?
3. Who will be responsible for the monitoring of activities ?
4. What need it satisfies ?

Options :

485584133905. 1
485584133906. 2
485584133907. 3
485584133908. 4

Question Number : 62 Question Id : 48558433477 Question Type : MCQ Option Shuffling : No Is Question Mandatory : No Calculator : None Response Time : N.A Think Time : N.A Minimum Instruction Time : 0

Correct Marks : 5 Wrong Marks : 1

Question Key Details :

Key	Value
Comprehension	MCQ

'அங்கு நாம் எப்படிச் செல்ல வேண்டும்' என்ற சந்தையிடு திட்டக்கேள்வி விவாதிக்காதது எது?

1. நடைமுறைபடுத்தப்போகும் ஒரு குறிப்பிட்ட சந்தையிடு உத்தி?
2. அது எப்பொழுது நடக்கும்?
3. நடவடிக்கைகளை கண்காணிக்கும் பொறுப்பு யாருடையது?
4. அது எந்த தேவையைப் பூர்த்தி செய்யும்?

Options :

485584133905. 1
485584133906. 2
485584133907. 3
485584133908. 4

Question Number : 63 Question Id : 48558433478 Question Type : MCQ Option Shuffling : No Is Question Mandatory : No Calculator : None Response Time : N.A Think Time : N.A Minimum Instruction Time : 0

Correct Marks : 5 Wrong Marks : 1

Question Key Details :

Key	Value
Comprehension	MCQ

Raghav is the owner of a business. He wants to transfer his ownership to his daughter Poorvi. He can do this without taking permission from anyone if the business is a _____ (Fill in the blank.)

1. Partnership firm
2. Public limited company
3. Private limited company
4. Sole Proprietorship

Options :

485584133909. 1
485584133910. 2
485584133911. 3
485584133912. 4

Question Number : 63 Question Id : 48558433478 Question Type : MCQ Option Shuffling : No Is Question Mandatory : No Calculator : None Response Time : N.A Think Time : N.A Minimum Instruction Time : 0

Correct Marks : 5 Wrong Marks : 1

Question Key Details :

Key	Value
Comprehension	MCQ

ராகவ், ஒரு வணிகத்தின் உரிமையாளர். அவர் தனது உரிமையை தனது மகள் பூர்விக்கு மாற்ற விரும்புகிறார். அந்த வணிகமானது _____ ஆக இருக்கும்போது, யாரிடமும் அனுமதி பெறாமல் அவர் இதைச் செய்யக்கூடும்.

1. கூட்டாண்மை நிறுவனம்
2. பொதுப்பணி லிமிடெட் கம்பெனி/நிறுவனம்
3. தனியார் லிமிடெட் கம்பெனி/நிறுவனம்
4. தனிப்பட்ட உரிமையாளர்

Options :

485584133909. 1
485584133910. 2
485584133911. 3
485584133912. 4

Question Number : 64 Question Id : 48558433479 Question Type : MCQ Option Shuffling : No Is Question Mandatory : No Calculator : None Response Time : N.A Think Time : N.A Minimum Instruction Time : 0

Correct Marks : 5 Wrong Marks : 1

Question Key Details :

Key	Value
Comprehension	MCQ

_____ element of business plan helps the entrepreneur to carefully evaluate and decide the legal structure of the organisation. Fill in the above blank with correct option:

1. Organisational plan
2. Marketing plan
3. Financial plan
4. Production plan

Options :

485584133913. 1
485584133914. 2
485584133915. 3
485584133916. 4

Question Number : 64 Question Id : 48558433479 Question Type : MCQ Option Shuffling : No Is Question Mandatory : No Calculator : None Response Time : N.A Think Time : N.A Minimum Instruction Time : 0

Correct Marks : 5 Wrong Marks : 1

Question Key Details :

Key	Value
Comprehension	MCQ

வணிகத்திட்டதின் _____ கூறு, ஒரு நிறுவனத்தின் சட்டரீதியான அமைப்பை கவனமாக மதிப்பிட்டு முடிவெடுக்க, ஒரு தொலில்முனைவோருக்கு உதவுகிறது.

1. நிர்வகிக்கும் திட்டம்
2. சந்தையிடு திட்டம்
3. நிதியுதவித் திட்டம்
4. உற்பத்தி திட்டம்

Options :

485584133913. 1
485584133914. 2
485584133915. 3
485584133916. 4

Question Number : 65 Question Id : 48558433480 Question Type : MCQ Option Shuffling : No Is Question Mandatory : No Calculator : None Response Time : N.A Think Time : N.A Minimum Instruction Time : 0

Correct Marks : 5 Wrong Marks : 1

Question Key Details :

Key	Value
Comprehension	MCQ

Mannat, a student of entrepreneurship decided to start her venture of manufacturing "Flood rescuing raft". For funding, she contacted one of the angel investors who suggested her to prepare a three minute summary of her business plan. Identify from the following options, the format of business plan suggested to Mannat, which is often used as a teaser to awaken the interest of potential funders, customers etc.

1. A well written presentation for external shareholders
2. An internal operational plan
3. A pitch deck with oral narratives
4. Elevator pitch

Options :

485584133917. 1
485584133918. 2
485584133919. 3
485584133920. 4

Question Number : 65 Question Id : 48558433480 Question Type : MCQ Option Shuffling : No Is Question Mandatory : No Calculator : None Response Time : N.A Think Time : N.A Minimum Instruction Time : 0

Correct Marks : 5 Wrong Marks : 1

Question Key Details :

Key	Value
Comprehension	MCQ

தொழில்முனையும் தன்மை கொண்ட ஒரு மாணவன், மன்னத் என்பவர் "வெள்ள மீட்பு மிதவை" ஒன்றை உற்பத்தி செய்யும் முயற்சியைத் துவங்க முடிவு செய்தார். நிதியுதவிக்காக அவர், ஒரு ஏஞ்சல் முதலீட்டாளரை அணுகியபோது, அவர் அவருடைய வணிகத்திட்டத்திற்கான தொரு மூன்று நிமிட தொகுப்புரை தயார் செய்ய ஆலோசனை வழங்கினார். பலம் வாய்ந்த நிதியாளர்கள், வாடிக்கையாளர்கள் போன்றவர்களின் ஆவலைத் தூண்டும் வண்ணம், பெரும்பாலும் மோப்பசாதனமாக பயன்படுத்தப்படும் மன்னத் ஆலோசித்திருந்த வணிக திட்ட படிவத்தை பின்வரும் தெரிவுகளில் இருந்து கண்டறிக.

1. புற பங்குதாரர்களுக்கானதொரு நன்கு எழுதப்பட்ட முன்னெடுப்பு
2. ஒரு உள்ளார்ந்த செயலாற்று திட்டம்
3. வாய்மொழி எடுத்துறைகளுடன் கூடியதொரு ஆடுகளம்
4. உயர்த்து ஆடுகளம்

Options :

485584133917. 1
485584133918. 2
485584133919. 3
485584133920. 4

Question Number : 66 Question Id : 48558433481 Question Type : MCQ Option Shuffling : No Is Question Mandatory : No Calculator : None Response Time : N.A Think Time : N.A Minimum Instruction Time : 0

Correct Marks : 5 Wrong Marks : 1

Question Key Details :

Key	Value
Comprehension	MCQ

Select the option that enlists all the micro environment factors from the following

- A. Competition
- B. Rate of Inflation
- C. Suppliers
- D. Customers
- E. Size of young population of India.

Choose the correct answer from the options given below:

- 1. B, D, E only
- 2. A, C, D only
- 3. C, D, E only
- 4. B, C, D only

Options :

- 485584133921. 1
- 485584133922. 2
- 485584133923. 3
- 485584133924. 4

Question Number : 66 Question Id : 48558433481 Question Type : MCQ Option Shuffling : No Is Question Mandatory : No Calculator : None Response Time : N.A Think Time : N.A Minimum Instruction Time : 0

Correct Marks : 5 Wrong Marks : 1

Question Key Details :

Key	Value
Comprehension	MCQ

பின்வருவனவற்றுள், அனைத்து நுண் சூழல் காரணிகளையும் பட்டியலிடும் தெரிவைத் தேர்ந்தெடுக்கவும்:

- A. போட்டி
- B. பணவீக்க விகிதம்
- C. பொருள் வழங்குவோர்
- D. வாடிக்கையாளர்கள்
- E. இந்திய இளைஞர் மக்கள் தொகையின் அளவு

கீழே தரப்பட்டுள்ள வாய்ப்புகளில் இருந்து சரியான விடையைத் தேர்ந்தெடுக்கவும்:

- 1. B, D, E மட்டும்
- 2. A, C, D மட்டும்
- 3. C, D, E மட்டும்
- 4. B, C, D மட்டும்

Options :

- 485584133921. 1
- 485584133922. 2
- 485584133923. 3
- 485584133924. 4

Question Number : 67 Question Id : 48558433482 Question Type : MCQ Option Shuffling : No Is Question Mandatory : No Calculator : None Response Time : N.A Think Time : N.A Minimum Instruction Time : 0

Correct Marks : 5 Wrong Marks : 1

Question Key Details :

Key	Value
Comprehension	MCQ

Match List I with List II

LIST I Components of financial plan		LIST II Features	
A.	Proforma investment decision	I.	The amount of cash available
B.	Proforma Financing decision	II.	How much funds are required
C.	Proforma cash flow	III.	Protected net profit
D.	Proforma Income Statement	IV.	Where will funds come from

Choose the correct answer from the options given below:

1. A-I, B-II, C-III, D-IV
2. A-II, B-IV, C-I, D-III
3. A-IV, B-III, C-II, D-I
4. A-III, B-II, C-I, D-IV

Options :

- 485584133925. 1
- 485584133926. 2
- 485584133927. 3
- 485584133928. 4

Question Number : 67 Question Id : 48558433482 Question Type : MCQ Option Shuffling : No Is Question Mandatory : No Calculator : None Response Time : N.A Think Time : N.A Minimum Instruction Time : 0

Correct Marks : 5 Wrong Marks : 1

Question Key Details :

Key	Value
Comprehension	MCQ

பட்டியல் I ஐ பட்டியல் II உடன் பொருத்துக

பட்டியல் I நிதியுதவித்திடத்தின் கூறுகள்		பட்டியல் II அம்சங்கள்	
A.	முதலீட்டு முடிவு(அ) தீர்மான முறைப்படிவம்	I.	கிடைகப்பெறக்கூடிய பணத்தொகை
B.	நிதியுதவி முடிவு(அ) தீர்மான முறைப்படிவம்	II.	எவ்வளவு நிதி தேவையாக உள்ளது
C.	பணப்புழக்க முடிவு(அ) தீர்மான முறைப்படிவம்	III.	பாதுகாக்கப்பட்ட நிகரலாபம்
D.	வறுமைக் கூற்று முடிவு(அ) தீர்மான முறைப்படிவம்	IV.	எங்கிருந்து நிதி வருகிறது

கீழே தரப்பட்டுள்ள வாய்ப்புகளில் இருந்து சரியான விடையைத் தேர்ந்தெடுக்கவும்:

1. A-I, B-II, C-III, D-IV
2. A-II, B-IV, C-I, D-III
3. A-IV, B-III, C-II, D-I
4. A-III, B-II, C-I, D-IV

Options :

485584133925. 1
485584133926. 2
485584133927. 3
485584133928. 4

Question Number : 68 Question Id : 48558433483 Question Type : MCQ Option Shuffling : No Is Question Mandatory : No Calculator : None Response Time : N.A Think Time : N.A Minimum Instruction Time : 0

Correct Marks : 5 Wrong Marks : 1

Question Key Details :

Key	Value
Comprehension	MCQ

A good advertising catches the eye or ear of the audience. The correct order of remaining stages is:

- A. Interest
- B. Action
- C. Attention
- D. Desire

Choose the correct answer from the options given below:

1. A, B, C only
2. A, D, B only
3. B, D only
4. D, A, B only

Options :

485584133929. 1
485584133930. 2
485584133931. 3

Question Number : 68 Question Id : 48558433483 Question Type : MCQ Option Shuffling : No Is Question Mandatory : No Calculator : None Response Time : N.A Think Time : N.A Minimum Instruction Time : 0

Correct Marks : 5 Wrong Marks : 1

Question Key Details :

Key	Value
Comprehension	MCQ

ஒரு நல்ல விளம்பரமாக்கல், பார்வையாளரது கண்ணை அல்லது செவியை ஈர்க்கும். எஞ்சியிருக்கும் பலநிலைகளின் சரியான வரிசை என்பது:

- A. ஆவல்
- B. நடவடிக்கை
- C. கவனம்
- D. ஆசை

கீழே தரப்பட்டுள்ள வாய்ப்புகளில் இருந்து சரியான விடையைத் தேர்ந்தெடுக்கவும்:

- 1. A, B, C மட்டும்
- 2. A, D, B மட்டும்
- 3. B, D மட்டும்
- 4. D, A, B மட்டும்

Options :

- 485584133929. 1
- 485584133930. 2
- 485584133931. 3
- 485584133932. 4

Question Number : 69 Question Id : 48558433484 Question Type : MCQ Option Shuffling : No Is Question Mandatory : No Calculator : None Response Time : N.A Think Time : N.A Minimum Instruction Time : 0

Correct Marks : 5 Wrong Marks : 1

Question Key Details :

Key	Value
Comprehension	MCQ

' A Patent' :

- 1. Gives the creator of original work exclusive rights
- 2. Grants an inventor the right to exclude others from using or selling an invention
- 3. A recognizable sign, design or expression
- 4. Protects the visual design of objects that are not purely utilitarian

Options :

- 485584133933. 1
- 485584133934. 2
- 485584133935. 3

Question Number : 69 Question Id : 48558433484 Question Type : MCQ Option Shuffling : No Is Question Mandatory : No Calculator : None Response Time : N.A Think Time : N.A Minimum Instruction Time : 0

Correct Marks : 5 Wrong Marks : 1

Question Key Details :

Key	Value
Comprehension	MCQ

ஒரு 'காப்புரிமை' என்பது:

1. அசல் வேலையது படைபாளிக்கு பிரத்தியேகமான உரிமைகள் வழங்கப்படுகிறது
2. ஒரு புதிய கண்டுபிடிப்பை, பிறரை பயன்படுத்த அல்லது விற்பதிலிருந்து தடுக்கும் உரிமை ஒரு கண்டுபிடிப்பாளருக்கு வழங்கப்படுகிறது.
3. அடையாளம் காணக்கூடிய சைகை, வடிவம் அல்லது வெளிப்பாடு
4. முழுவதும் பயன்படக்கூடியதற்ற பொருட்களின் காட்சி வடிவத்தை பாதுகாத்தல்.

Options :

485584133933. 1
485584133934. 2
485584133935. 3
485584133936. 4

Question Number : 70 Question Id : 48558433485 Question Type : MCQ Option Shuffling : No Is Question Mandatory : No Calculator : None Response Time : N.A Think Time : N.A Minimum Instruction Time : 0

Correct Marks : 5 Wrong Marks : 1

Question Key Details :

Key	Value
Comprehension	MCQ

Match List I with List II

LIST I		LIST II	
A.	Product	I.	Method to spread the word about the product or service
B.	Price	II.	Item actually being sold
C.	Place	III.	Value put on a product
D.	Promotion	IV.	Path along which goods move from producers to consumers

Choose the correct answer from the options given below:

1. A-IV, B-II, C-I, D-III
2. A-III, B-II, C-IV, D-I
3. A-II, B-I, C-IV, D-III
4. A-II, B-III, C-IV, D-I

Options :

485584133937. 1
 485584133938. 2
 485584133939. 3
 485584133940. 4

Question Number : 70 Question Id : 48558433485 Question Type : MCQ Option Shuffling : No Is Question Mandatory : No Calculator : None Response Time : N.A Think Time : N.A Minimum Instruction Time : 0

Correct Marks : 5 Wrong Marks : 1

Question Key Details :

Key	Value
Comprehension	MCQ

பட்டியல் I ஐ பட்டியல் II உடன் பொருத்துக

பட்டியல் I		பட்டியல் II	
A.	உற்பத்திப் பொருள்	I.	உற்பத்திப்பொருள் அல்லது செவைபற்றியதொரு சொல்லை பரவச்செய்யும் முறை
B.	விலை	II.	விற்கப்படும் விஷயம்
C.	இடம்	III.	ஒரு விற்பனைப் பொருளில் போடப்பட்டிருக்கும் மதிப்பு
D.	பிரச்சாரம்	IV.	உர்ப்பதியாளர்களிடமிருந்து வாடிக்கையாளர்களுக்கு சரக்கு நகரும் பாதை.

கீழே தரப்பட்டுள்ள வாய்ப்புகளில் இருந்து சரியான விடையைத் தேர்ந்தெடுக்கவும்:

1. A-IV, B-II, C-I, D-III
2. A-III, B-II, C-IV, D-I
3. A-II, B-I, C-IV, D-III
4. A-II, B-III, C-IV, D-I

Options :

485584133937. 1
 485584133938. 2
 485584133939. 3
 485584133940. 4

Question Number : 71 Question Id : 48558433486 Question Type : MCQ Option Shuffling : No Is Question Mandatory : No Calculator : None Response Time : N.A Think Time : N.A Minimum Instruction Time : 0

Correct Marks : 5 Wrong Marks : 1

Question Key Details :

Key	Value
Comprehension	MCQ

Identify the correct statements

- A. A logo is used as a short path for advertising.
- B. A logo anchors company's brand.
- C. A logo is only used by individuals.
- D. A logo has to be completely graphic.
- E. A logo is also called logotype.

Choose the correct answer from the options given below:

- 1. A, B only
- 2. A, B, E only
- 3. A, E only
- 4. C, E only

Options :

- 485584133941. 1
- 485584133942. 2
- 485584133943. 3
- 485584133944. 4

Question Number : 71 Question Id : 48558433486 Question Type : MCQ Option Shuffling : No Is Question Mandatory : No Calculator : None Response Time : N.A Think Time : N.A Minimum Instruction Time : 0

Correct Marks : 5 Wrong Marks : 1

Question Key Details :

Key	Value
Comprehension	MCQ

சரியான கூற்றுகளைக் கண்டறிக:

- A. ஒரு லோகோ, விளம்பரப்படுத்துவதற்கான குறுகிய பாதையாகும்.
- B. ஒரு லோகோ, கம்பெனியது பிராண்டை நிலைநிறுத்தும்
- C. ஒரு லோகோ, தனிநபர்களால் மட்டுமே பயன்படுத்தக்கூடியது.
- D. ஒரு லோகோ, முற்றிலும் வரவியலாக அமையும்.
- E. ஒரு லோகோ, லோகோவகை எனவும் அழைக்கப்படும்

கீழே தரப்பட்டுள்ள வாய்ப்புகளில் இருந்து சரியான விடையைத் தேர்ந்தெடுக்கவும்:

- 1. A, B மட்டும்
- 2. A, B, E மட்டும்
- 3. A, E மட்டும்
- 4. C, E மட்டும்

Options :

- 485584133941. 1
- 485584133942. 2
- 485584133943. 3
- 485584133944. 4

Question Number : 72 Question Id : 48558433487 Question Type : MCQ Option Shuffling : No Is Question Mandatory : No Calculator : None Response Time : N.A Think Time : N.A Minimum Instruction Time : 0
Correct Marks : 5 Wrong Marks : 1
Question Key Details :

Key	Value
Comprehension	MCQ

When, with the merger of two companies, the combined value of the entity is more than the sum total of their individual company value, it is called as _____;

1. Competency
2. Value addition
3. Synergy
4. Conglomerate

Options :

485584133945. 1
485584133946. 2
485584133947. 3
485584133948. 4

Question Number : 72 Question Id : 48558433487 Question Type : MCQ Option Shuffling : No Is Question Mandatory : No Calculator : None Response Time : N.A Think Time : N.A Minimum Instruction Time : 0
Correct Marks : 5 Wrong Marks : 1
Question Key Details :

Key	Value
Comprehension	MCQ

இரு நிறுவனங்கள் இணைகையில் (மெர்ஜர்), அந்தப்பொருளது தொகுப்பு மதிப்பானது அவர்களின் தனிப்பட்ட நிறுவன மதிப்புகளின் கூடுதலைக் காட்டிலும் அதிகமானால், அது _____ எனப்படும்.

1. திறமை
2. மதிப்புக்கூட்டல்
3. ஸினர்ஜி (அ) ஒத்திசைவு
4. கதம்பத்திரன்

Options :

485584133945. 1
485584133946. 2
485584133947. 3
485584133948. 4

Question Number : 73 Question Id : 48558433488 Question Type : MCQ Option Shuffling : No Is Question Mandatory : No Calculator : None Response Time : N.A Think Time : N.A Minimum Instruction Time : 0
Correct Marks : 5 Wrong Marks : 1
Question Key Details :

Key	Value
Comprehension	MCQ

"Rohan took an agency of MRF tyres & opened a shop at Lajpat Nagar market".

Which type of franchising is discussed in the above paragraph?

1. Manufacturing franchise opportunity
2. Product franchise business opportunity
3. Business franchise opportunity venture
4. Business format franchise opportunity

Options :

485584133949. 1
485584133950. 2
485584133951. 3
485584133952. 4

Question Number : 73 Question Id : 48558433488 Question Type : MCQ Option Shuffling : No Is Question Mandatory : No Calculator : None Response Time : N.A Think Time : N.A Minimum Instruction Time : 0

Correct Marks : 5 Wrong Marks : 1

Question Key Details :

Key	Value
Comprehension	MCQ

ரோஹன், MRF டயர்களுக்களான ஏஜென்சி ஒன்றை எடுத்து, லஜ்பட் நகர சந்தையில் கடை ஒன்றை திறந்தார்.

மேற்கூறிய பத்தியில் எவ்வகையான ஃபிரான்சைசிங் விவாதிக்கப்பட்டது?

1. உற்பத்தி ஃபிரான்சைசிங் வாய்ப்பு
2. உற்பத்திபொருள் ஃபிரான்சைசிங் வாய்ப்பு
3. வணிக ஃபிரான்சைசிங் வாய்ப்பு முயற்சி
4. வணிகப்படிவ ஃபிரான்சைசிங் வாய்ப்பு

Options :

485584133949. 1
485584133950. 2
485584133951. 3
485584133952. 4

Question Number : 74 Question Id : 48558433489 Question Type : MCQ Option Shuffling : No Is Question Mandatory : No Calculator : None Response Time : N.A Think Time : N.A Minimum Instruction Time : 0

Correct Marks : 5 Wrong Marks : 1

Question Key Details :

Key	Value
-----	-------

Comprehension	MCQ
---------------	-----

Which of the following is NOT the advantage of franchising from the point of view of franchisee?

1. Product Acceptance
2. Knowledge of the market
3. Quick Expansion
4. Management expertise

Options :

485584133953. 1
485584133954. 2
485584133955. 3
485584133956. 4

Question Number : 74 Question Id : 48558433489 Question Type : MCQ Option Shuffling : No Is Question Mandatory : No Calculator : None Response Time : N.A Think Time : N.A Minimum Instruction Time : 0

Correct Marks : 5 Wrong Marks : 1

Question Key Details :

Key	Value
Comprehension	MCQ

பின்வருவனவற்றுள், ஒரு ஃபிரான்சைசசிங்யது பார்வையில், ஃபிரான்சைசசிங்கினது நன்மையாக எது அமையாது?

1. உற்பத்திப்பொருள் ஏற்புடைமை
2. சந்தை பற்றிய அறிவு
3. துரித விரிவாக்கம்
4. மேலாண்மை அனுபவத்தின்

Options :

485584133953. 1
485584133954. 2
485584133955. 3
485584133956. 4

Question Number : 75 Question Id : 48558433490 Question Type : MCQ Option Shuffling : No Is Question Mandatory : No Calculator : None Response Time : N.A Think Time : N.A Minimum Instruction Time : 0

Correct Marks : 5 Wrong Marks : 1

Question Key Details :

Key	Value
Comprehension	MCQ

A merger between the two soft drink manufacturing company in Jaipur is an example of :

1. Conglomerate
2. Market extension mergers
3. Product extension mergers
4. Horizontal merger

Options :

485584133957. 1
485584133958. 2
485584133959. 3
485584133960. 4

Question Number : 75 Question Id : 48558433490 Question Type : MCQ Option Shuffling : No Is Question Mandatory : No Calculator : None Response Time : N.A Think Time : N.A Minimum Instruction Time : 0

Correct Marks : 5 Wrong Marks : 1

Question Key Details :

Key	Value
Comprehension	MCQ

ஜெய்ப்பூரில் ஏற்பட்ட இரு குளிர்பானம் தயாரிக்கும் நிறுவனங்களின் மெர்ஜர்(இணைவு) என்பது இதன் எடுத்துக்காட்டாகும்:

1. கதம்பத் திரன்
2. சந்தை நீட்டிப்பு (அ) விரிவாக்க இணைவுகள்
3. விற்பனை பொருள் நீட்டிப்பு (அ) விரிவாக்க இணைவுகள்
4. கிடைமட்ட இணைவு

Options :

485584133957. 1
485584133958. 2
485584133959. 3
485584133960. 4

Question Number : 76 Question Id : 48558433491 Question Type : MCQ Option Shuffling : No Is Question Mandatory : No Calculator : None Response Time : N.A Think Time : N.A Minimum Instruction Time : 0

Correct Marks : 5 Wrong Marks : 1

Question Key Details :

Key	Value
Comprehension	MCQ

Costs involved with receipt of goods, inspection of goods is known as _____.

1. Purchased cost of inventory
2. Ordering cost
3. Holding cost
4. EOQ (Economic Order Quantity)

Options :

485584133961. 1
485584133962. 2
485584133963. 3
485584133964. 4

Question Number : 76 Question Id : 48558433491 Question Type : MCQ Option Shuffling : No Is Question Mandatory : No Calculator : None Response Time : N.A Think Time : N.A Minimum Instruction Time : 0

Correct Marks : 5 Wrong Marks : 1

Question Key Details :

Key	Value
Comprehension	MCQ

சரக்குகளின் வரவு, சரக்குகளை ஆய்வு செய்தல் போன்றவற்றில் நிலவும் செலவுகள் _____ என்றழைக்கப்படும்

1. சரக்கு இருப்புக்கான கொள்முதல் செலவு
2. ஆர்டருக்கான செலவுவைத்து இருப்பதற்க்கான செலவு
3. வைத்து இருப்பதற்க்கான செலவு
4. EOQ (சிக்கன ஆர்டர் அளவு)

Options :

485584133961. 1
485584133962. 2
485584133963. 3
485584133964. 4

Question Number : 77 Question Id : 48558433492 Question Type : MCQ Option Shuffling : No Is Question Mandatory : No Calculator : None Response Time : N.A Think Time : N.A Minimum Instruction Time : 0

Correct Marks : 5 Wrong Marks : 1

Question Key Details :

Key	Value
Comprehension	MCQ

Money needed to fund the normal day to day operations of a business is:

1. Working Capital
2. Shareholders funds
3. Depreciation
4. Interest

Options :

485584133965. 1
485584133966. 2
485584133967. 3
485584133968. 4

Question Number : 77 Question Id : 48558433492 Question Type : MCQ Option Shuffling : No Is Question Mandatory : No Calculator : None Response Time : N.A Think Time : N.A Minimum Instruction Time : 0

Correct Marks : 5 Wrong Marks : 1

Question Key Details :

Key	Value
Comprehension	MCQ

ஒரு வணிகத்தின் தினசரி வாடிக்கையான நடவடிக்கைகளுக்குத் தேவைப்படும் பணம்:

1. நடப்பு (அ) தொழிற்பாட்டு மூலதனம்
2. பங்குதார்களது நிதி
3. விளையிறக்கம்
4. வட்டி

Options :

485584133965. 1
485584133966. 2
485584133967. 3
485584133968. 4

Question Number : 78 Question Id : 48558433493 Question Type : MCQ Option Shuffling : No Is Question Mandatory : No Calculator : None Response Time : N.A Think Time : N.A Minimum Instruction Time : 0

Correct Marks : 5 Wrong Marks : 1

Question Key Details :

Key	Value
Comprehension	MCQ

Net working capital can be calculated using:

- A. Current assets
- B. Non-current assets
- C. Current Liabilities
- D. Non-current Liabilities
- E. Shareholder's funds

Choose the correct answer from the options given below:

- 1. A and D only
- 2. A and B only
- 3. A and C only
- 4. D and E only

Options :

- 485584133969. 1
- 485584133970. 2
- 485584133971. 3
- 485584133972. 4

Question Number : 78 Question Id : 48558433493 Question Type : MCQ Option Shuffling : No Is Question Mandatory : No Calculator : None Response Time : N.A Think Time : N.A Minimum Instruction Time : 0

Correct Marks : 5 Wrong Marks : 1

Question Key Details :

Key	Value
Comprehension	MCQ

நிகர நடப்பு மூலதனத்தை இவற்றைக் கொண்டு கணக்கிடலாம்:

- A. நடப்பு சொத்துகள்
- B. நடப்பில்லா சொத்துகள்
- C. நடப்பு பொறுப்புகள்
- D. நடப்பில்லா பொறுப்புகள்
- E. பங்குதாரர்களின் நிதி

கீழே தரப்பட்டுள்ள வாய்ப்புகளில் இருந்து சரியான விடையைத் தேர்ந்தெடுக்கவும்:

- 1. A மற்றும் D மட்டும்
- 2. A மற்றும் B மட்டும்
- 3. A மற்றும் C மட்டும்
- 4. D மற்றும் E மட்டும்

Options :

- 485584133969. 1
- 485584133970. 2
- 485584133971. 3
- 485584133972. 4

Question Number : 79 Question Id : 48558433494 Question Type : MCQ Option Shuffling : No Is Question Mandatory : No Calculator : None Response Time : N.A Think Time : N.A Minimum Instruction Time : 0
Correct Marks : 5 Wrong Marks : 1
Question Key Details :

Key	Value
Comprehension	MCQ

Calculate ROI (Return on Investment); where you spend ₹2,00,000/- to open a restaurant and make a profit of ₹40,000/- in one year

1. 10%
2. 20%
3. 50%
4. 25%

Options :

485584133973. 1
485584133974. 2
485584133975. 3
485584133976. 4

Question Number : 79 Question Id : 48558433494 Question Type : MCQ Option Shuffling : No Is Question Mandatory : No Calculator : None Response Time : N.A Think Time : N.A Minimum Instruction Time : 0
Correct Marks : 5 Wrong Marks : 1
Question Key Details :

Key	Value
Comprehension	MCQ

நீங்கள் உணவகத்தை திறப்பதற்காக ₹2,00,000/- செலவு செய்துள்ளீர்கள், மேலும் ஆண்டு ஒன்றுக்கு ₹40,000/- லாபம் மேற்கொள்கிறீர்கள் எனில், ROI (முதலீடு மீதான ஆதாயம்)ஐ கணக்கீடுக.

1. 10%
2. 20%
3. 50%
4. 25%

Options :

485584133973. 1
485584133974. 2
485584133975. 3
485584133976. 4

Question Number : 80 Question Id : 48558433495 Question Type : MCQ Option Shuffling : No Is Question Mandatory : No Calculator : None Response Time : N.A Think Time : N.A Minimum Instruction Time : 0
Correct Marks : 5 Wrong Marks : 1
Question Key Details :

Key	Value
-----	-------

Effective Inventory Control System aims at

- A. Providing stock as and when the need arises
- B. Procuring stock at minimum possible price
- C. Minimizing cost
- D. Minimizing investment in inventory
- E. Minimizing Control

Choose the correct answer from the options given below:

- 1. A and D only
- 2. B and D only
- 3. A and B only
- 4. D and E only

Options :

- 485584133977. 1
- 485584133978. 2
- 485584133979. 3
- 485584133980. 4

Question Number : 80 Question Id : 48558433495 Question Type : MCQ Option Shuffling : No Is Question Mandatory : No Calculator : None Response Time : N.A Think Time : N.A Minimum Instruction Time : 0

Correct Marks : 5 Wrong Marks : 1

Question Key Details :

Key	Value
Comprehension	MCQ

பயன்தக்க சரக்கு இருப்பு கட்டுப்பட்டமைப்பு இதற்கு முயல்கிறது:

- A. தேவை எழும்போது உடனுக்குடன் சரக்கை வழங்குதல்
- B. மிகக்குறைந்த சாத்திய விலையில் சரக்கை சேகரித்தல்
- C. செலவைக் குறைத்தல்
- D. சரக்கு இருப்பில் முதலீடு செய்வதை குறைத்தல்
- E. கட்டுப்பாட்டை குறைத்தல்

கீழே தரப்பட்டுள்ள வாய்ப்புகளில் இருந்து சரியான விடையைத் தேர்ந்தெடுக்கவும்:

- 1. A மற்றும் D மட்டும்
- 2. B மற்றும் D மட்டும்
- 3. A மற்றும் B மட்டும்
- 4. D மற்றும் E மட்டும்

Options :

- 485584133977. 1
- 485584133978. 2
- 485584133979. 3

Question Number : 81 Question Id : 48558433496 Question Type : MCQ Option Shuffling : No Is Question Mandatory : No Calculator : None Response Time : N.A Think Time : N.A Minimum Instruction Time : 0

Correct Marks : 5 Wrong Marks : 1

Question Key Details :

Key	Value
Comprehension	MCQ

A seller sells 30000 units of a product per year, demand is uniform. Purchase cost is Rs. 6/- per product. Holding cost per annum is 20% of purchase cost. Ordering cost is Rs.500/- per order. What would be the Economic Order Quantity?

1. 5000 units
2. 5500 units
3. 5200 units
4. 4800 units

Options :

485584133981. 1
485584133982. 2
485584133983. 3
485584133984. 4

Question Number : 81 Question Id : 48558433496 Question Type : MCQ Option Shuffling : No Is Question Mandatory : No Calculator : None Response Time : N.A Think Time : N.A Minimum Instruction Time : 0

Correct Marks : 5 Wrong Marks : 1

Question Key Details :

Key	Value
Comprehension	MCQ

ஒரு விற்பனையாளர் ஆண்டு ஒன்றுக்கு விற்பனைப் பொருள் ஒன்றின் 30000 அலகுகளை, தேவை சீராக இருக்கும்போது விற்கிறார். கொள்முதல் செலவு, பொருள் ஒன்றுக்கு ரூ. 6/- ஆகும். ஆண்டு ஒன்றுக்கு வைப்புச் செலவு, கொள்முதல் செலவின் 20% ஆகும். ஆர்டர் ஒன்றுக்கு ஆர்டர் செய்யும் செலவு ரூ.500/- எனில், சிக்கன ஆர்டர் அளவு யாது?

1. 5000 அலகுகள்
2. 5500 அலகுகள்
3. 5200 அலகுகள்
4. 4800 அலகுகள்

Options :

485584133981. 1
485584133982. 2
485584133983. 3
485584133984. 4

Question Number : 82 Question Id : 48558433497 Question Type : MCQ Option Shuffling : No Is Question Mandatory : No Calculator : None Response Time : N.A Think Time : N.A Minimum Instruction Time : 0

Correct Marks : 5 Wrong Marks : 1

Question Key Details :

Key	Value
Comprehension	MCQ

Sandeep, Mohit, Rajat and Rakesh are businessmen producing different products. It takes Sandeep 4 months, Mohit 3 months, Rajat 7 months and Rakesh 1 month, to purchase inventory and to sell the finished product in the market to get cash. Who will require maximum working capital?

1. Sandeep
2. Mohit
3. Rajat
4. Rakesh

Options :

485584133985. 1
485584133986. 2
485584133987. 3
485584133988. 4

Question Number : 82 Question Id : 48558433497 Question Type : MCQ Option Shuffling : No Is Question Mandatory : No Calculator : None Response Time : N.A Think Time : N.A Minimum Instruction Time : 0

Correct Marks : 5 Wrong Marks : 1

Question Key Details :

Key	Value
Comprehension	MCQ

சந்தீப், மோஹித், ரஜத் மற்றும் ராகேஷ் ஆகியோர் பல்வேறு உற்பத்திப் பொருட்களை தயார் செய்யும் வணிகர்கள் அதற்கான சரக்கு இருப்பு கொள்முதல் செய்யவும், முடிவுபெற்ற விற்பனைப் பொருளை சந்தையில் பணம் பெற, விற்பதற்கும், சந்தீப்பிற்கு 4 மாதங்களும், மோஹித்திற்கு 3 மாதங்களும், ரஜத்திற்கு 7 மாதங்களும் மற்றும் ராகேஷ்'க்கு 1 மாதமும் ஆகின்றது. எவருக்கு மிக அதிகமான நடப்பு தொழிற்பாட்டு மூலதனம் தேவை

1. சந்தீப்
2. மோஹித்
3. ரஜத்
4. ராகேஷ்

Options :

485584133985. 1
485584133986. 2
485584133987. 3
485584133988. 4

Question Number : 83 Question Id : 48558433498 Question Type : MCQ Option Shuffling : No Is Question Mandatory : No Calculator : None Response Time : N.A Think Time : N.A Minimum Instruction Time : 0

Correct Marks : 5 Wrong Marks : 1

Question Key Details :

Key	Value
Comprehension	MCQ

The role of transferring financial resources from the surplus units to deficit units is referred to as :

1. Rights Issue
2. Angel Investors
3. Capital Markets
4. Financial intermediation

Options :

485584133989. 1
485584133990. 2
485584133991. 3
485584133992. 4

Question Number : 83 Question Id : 48558433498 Question Type : MCQ Option Shuffling : No Is Question Mandatory : No Calculator : None Response Time : N.A Think Time : N.A Minimum Instruction Time : 0

Correct Marks : 5 Wrong Marks : 1

Question Key Details :

Key	Value
Comprehension	MCQ

நிதி ஆதாரங்களை, மிகை அலகுகளிலிருந்து பற்றாக்குறை அலகுகளுக்கு மாற்றம் செய்யும் பங்கு/பொறுப்பு இவ்வாறு குறிப்பிடப்படுகிறது:

1. உரிமைப்பங்கு வெளியீடு
2. ஏஞ்சல் முதலீட்டாளர்கள்
3. மூலதன சந்தைகள்
4. நிதிசார் இடையீடு

Options :

485584133989. 1
485584133990. 2
485584133991. 3
485584133992. 4

Question Number : 84 Question Id : 48558433499 Question Type : MCQ Option Shuffling : No Is Question Mandatory : No Calculator : None Response Time : N.A Think Time : N.A Minimum Instruction Time : 0

Correct Marks : 5 Wrong Marks : 1

Question Key Details :

Key	Value
Comprehension	MCQ

The 'new issues' may be issued by old companies and are called _____.

1. Public issue
2. Rights issue
3. Further issue
4. Initial issue

Options :

485584133993. 1
485584133994. 2
485584133995. 3
485584133996. 4

Question Number : 84 Question Id : 48558433499 Question Type : MCQ Option Shuffling : No Is Question Mandatory : No Calculator : None Response Time : N.A Think Time : N.A Minimum Instruction Time : 0

Correct Marks : 5 Wrong Marks : 1

Question Key Details :

Key	Value
Comprehension	MCQ

பழைய கம்பெனியால் வெளியிடப்பட்ட புதிய பங்கு வெளியீடுகள் _____ என்று அழைக்கப்படும்

1. பொது வெளியீடு
2. உரிமைகள் பங்கு வெளியீடு
3. பிற்பாடு வெளியீடு
4. தொடக்கபங்கு வெளியீடு

Options :

485584133993. 1
485584133994. 2
485584133995. 3
485584133996. 4

Question Number : 85 Question Id : 48558433500 Question Type : MCQ Option Shuffling : No Is Question Mandatory : No Calculator : None Response Time : N.A Think Time : N.A Minimum Instruction Time : 0

Correct Marks : 5 Wrong Marks : 1

Question Key Details :

Key	Value
Comprehension	MCQ

Mahima started a venture where she could provide food from various restaurants to passengers travelling by train. She created an app for the same. She was guided all throughout by her friend & mentor Shalini, who was a successful entrepreneur herself. Shalini had a corpus of funds which she decided to transfer to Mahima for her venture. Mahima preferred to give Shalini a return on her investment. Identify the source of financing for Mahima.

1. Venture Capital
2. Angel Investor
3. Loan
4. Charity

Options :

485584133997. 1
485584133998. 2
485584133999. 3
485584134000. 4

Question Number : 85 Question Id : 48558433500 Question Type : MCQ Option Shuffling : No Is Question Mandatory : No Calculator : None Response Time : N.A Think Time : N.A Minimum Instruction Time : 0

Correct Marks : 5 Wrong Marks : 1

Question Key Details :

Key	Value
Comprehension	MCQ

மஹிமா, இரயிலில் பயணம் செய்யும் பயணிகளுக்கென்று பல்வேறு உணவகங்களிலிருந்து உணவு வழங்குவதற்கென்று ஒரு (வென்சரை) தொடக்க முயற்சியைத் துவங்கினார். அதற்கான ஒரு 'APP'யும் அவர் உருவாக்கினார். அவரது தோழி மற்றும் வழிகாட்டியும் ஆன ஷாலின், ஒரு வெற்றிகரமான தொழில்முனைவோரும் கூட்டாகவே இருப்பார், அவரை வழி முழுவதுமாக வழிகாட்டினார். ஷாலினியிடம் இருந்து நிதி மூலதனத்தை மஹிமாவிடமிருந்து அவளது முதலீடிற்காக ஆதாயத்தை ஷாலினிக்கு வழங்க விரும்பினார். மஹிமாவிடமிருந்து கிடைத்த நிதியுதவிக்கான ஆதாரத்தை கண்டறிக:

1. தொடக்க முயற்சி மூலதனம் (வென்சர்)
2. ஏஞ்சல் முதலீட்டாளர்கள்
3. கடன்
4. தானம்

Options :

485584133997. 1
485584133998. 2
485584133999. 3
485584134000. 4

Question Number : 86 Question Id : 48558433501 Question Type : MCQ Option Shuffling : No Is Question Mandatory : No Calculator : None Response Time : N.A Think Time : N.A Minimum Instruction Time : 0

Correct Marks : 5 Wrong Marks : 1

Question Key Details :

Key	Value
Comprehension	MCQ

_____ is a type of private equity capital provided as seed funding to early stage, high potential, high risk growth up companies/entrepreneurs.

1. Angel investor
2. Venture Capital
3. Working Capital
4. Fixed Capital

Options :

485584134001. 1
485584134002. 2
485584134003. 3
485584134004. 4

Question Number : 86 Question Id : 48558433501 Question Type : MCQ Option Shuffling : No Is Question Mandatory : No Calculator : None Response Time : N.A Think Time : N.A Minimum Instruction Time : 0

Correct Marks : 5 Wrong Marks : 1

Question Key Details :

Key	Value
Comprehension	MCQ

தொடக்க நிலை, உயர் பலம் பொருந்திய, உயர் எதிர்நோக்கு இடர் கொண்ட வளர்ச்சி உடைய கம்பெனிகள்/தொழில்முனைவோர்களுக்கு விதை நிதியாக வழங்கப்படும் தனியார் பங்கு மூலதன வகையொன்று_____

1. ஏஞ்சல் முதலீட்டாளர்
2. வென்சர் மூலதனம்
3. நடப்பு/தொழிற்பாட்டு மூலதனம்
4. நிலையான தொழிற்பாட்டு மூலதனம்

Options :

485584134001. 1
485584134002. 2
485584134003. 3
485584134004. 4

Question Number : 87 Question Id : 48558433502 Question Type : MCQ Option Shuffling : No Is Question Mandatory : No Calculator : None Response Time : N.A Think Time : N.A Minimum Instruction Time : 0

Correct Marks : 5 Wrong Marks : 1

Question Key Details :

Key	Value
Comprehension	MCQ

Match List I with List II

LIST I		LIST II	
Types of Issues		Characteristics	
A.	Public issue	I.	Inexpensive & no brokerage
B.	Rights issue	II.	Stock options to motivate employees
C.	Private placement	III.	Issue of prospects
D.	Offer to employees	IV.	UTI, LIC, GICI, SLFC

Choose the correct answer from the options given below:

1. A-IV, B-III, C-II, D-I
2. A-III, B-I, C-IV, D-II
3. A-II, B-IV, C-I, D-III
4. A-I, B-III, C-II, D-IV

Options :

485584134005. 1
485584134006. 2
485584134007. 3
485584134008. 4

Question Number : 87 Question Id : 48558433502 Question Type : MCQ Option Shuffling : No Is Question Mandatory : No Calculator : None Response Time : N.A Think Time : N.A Minimum Instruction Time : 0

Correct Marks : 5 Wrong Marks : 1

Question Key Details :

Key	Value
Comprehension	MCQ

பட்டியல் I ஐ பட்டியல் II உடன் பொருத்துக

பட்டியல் I		பட்டியல் II	
வெளியீடுகளின் வகைகள்		சிறப்பம்சங்கள்	
A.	பொது வெளியீடு	I.	மலிவானது மற்றும் தரகுக்கட்டணமின்றி அமைவது
B.	உரிமைகள் வெளியீடு	II.	ஊழியர்களை ஊக்குவிக்க பங்குத் தெரிவுகள்
C.	தனியார் அமர்வு/ வெளியீடு	III.	விஷயத்தொகுப்பு வெளியீடு
D.	ஊழியர்களுக்கான சலுகை	IV.	UTI, LIC, GICI, SLFC

கீழே தரப்பட்டுள்ள வாய்ப்புகளில் இருந்து சரியான விடையைத் தேர்ந்தெடுக்கவும்:

1. A-IV, B-III, C-II, D-I
2. A-III, B-I, C-IV, D-II
3. A-II, B-IV, C-I, D-III
4. A-I, B-III, C-II, D-IV

Options :

485584134005. 1
485584134006. 2

485584134007. 3

485584134008. 4

Question Number : 88 Question Id : 48558433503 Question Type : MCQ Option Shuffling : No Is Question Mandatory : No Calculator : None Response Time : N.A Think Time : N.A Minimum Instruction Time : 0

Correct Marks : 5 Wrong Marks : 1

Question Key Details :

Key	Value
Comprehension	MCQ

Venture capitalist look for an exit from the business in the time frame of typically 3-7 years. Identify the way venture capitalist (VC) exit within the time frame from the business where they are investing?

1. VC's have a continuous involvement in the business so they do not exit.
2. VC's disinvest the holdings either to the promoters or in the market
3. VC's invest in the early stage and exit in the pre-public stage by disinvesting their holdings to the promoters
4. VC's exit after selling the shares in the market

Options :

485584134009. 1

485584134010. 2

485584134011. 3

485584134012. 4

Question Number : 88 Question Id : 48558433503 Question Type : MCQ Option Shuffling : No Is Question Mandatory : No Calculator : None Response Time : N.A Think Time : N.A Minimum Instruction Time : 0

Correct Marks : 5 Wrong Marks : 1

Question Key Details :

Key	Value
Comprehension	MCQ

இயல்புமாறா நிலையில், சுமார் 3-7 ஆண்டுகள் என்ற காலகட்டத்தில் ஒரு வென்சர் மூலதனமளித்தோர்(VC), வணிகத்திலிருந்து ஒரு வெளியேறு வழியை எதிர் நோக்குகின்றார். அவர்கள் முதலீடு செய்துள்ள இடத்திலிருந்து அந்த வணிகத்தை விட்டு உரிய காலகட்டத்தில்(VC) அவர்கள் வெளியேறுவதற்கான வழியை அடையாளம் கண்டறிக:

1. VC'க்களுக்கு வணிகத்தில் தொடர்ச்சியானதொரு ஈடுபாடு இருக்கும் என்பதால் அவர்கள் வெளியேறமாட்டார்கள்
2. VC'க்கள் தங்களது இருப்பு பங்குகளை வணிகமேம்படுத்துவர்களுக்கு அல்லது சந்தையில் உள்ளவர்களுக்கு விற்று முதலீட்டை மீட்டெடுப்பர்.
3. VC'க்கள் தொடக்க நிலையில் முதலீடு செய்வர், பிறகு பொதுமக்களுக்கு போகும் நிலைக்கு முன்பே தனது பங்குகளை வணிகமேம்படுத்துவர்களுக்கு விற்று முதலீட்டை மீட்டெடுத்து வெளியேறுவார்.
4. VC'க்கள் சந்தையில் பங்குகளை விற்றபிறகு வெளியேறுவர்.

Options :

- 485584134009. 1
- 485584134010. 2
- 485584134011. 3
- 485584134012. 4

Question Number : 89 Question Id : 48558433504 Question Type : MCQ Option Shuffling : No Is Question Mandatory : No Calculator : None Response Time : N.A Think Time : N.A Minimum Instruction Time : 0

Correct Marks : 5 Wrong Marks : 1

Question Key Details :

Key	Value
Comprehension	MCQ

Identify the role played by Amit in the process of Financial Intermediation, if he has money which he does not want to spend

1. Financial Intermediary
2. Surplus Unit
3. Deficit Unit
4. Lender

Options :

- 485584134013. 1
- 485584134014. 2
- 485584134015. 3
- 485584134016. 4

Question Number : 89 Question Id : 48558433504 Question Type : MCQ Option Shuffling : No Is Question Mandatory : No Calculator : None Response Time : N.A Think Time : N.A Minimum Instruction Time : 0

Correct Marks : 5 Wrong Marks : 1

Question Key Details :

Key	Value
Comprehension	MCQ

அமீத்திடம், அவன் செலவு செய்ய விரும்பாத பணம் இருந்தது எனில், நிதிசார் இடையீட்டு நடைமுறையில் அமித் செயலாற்றிய பங்கு/வகித்த பொறுப்புகளைக் கண்டறிக:

1. நிதிசார் இடையிடுதல்
2. மிகை அலகு
3. பற்றாக்குறை அலகு
4. கடன் கொடுப்போர்

Options :

- 485584134013. 1
- 485584134014. 2
- 485584134015. 3
- 485584134016. 4

Question Number : 90 Question Id : 48558433505 Question Type : MCQ Option Shuffling : No Is Question Mandatory : No Calculator : None Response Time : N.A Think Time : N.A Minimum Instruction Time : 0
Correct Marks : 5 Wrong Marks : 1
Question Key Details :

Key	Value
Comprehension	MCQ

Market facilitating to transfer resources from the savers to the entrepreneurs setting new enterprises is:

1. Primary market
2. Secondary market
3. Money Market
4. Debt Market

Options :

485584134017. 1
485584134018. 2
485584134019. 3
485584134020. 4

Question Number : 90 Question Id : 48558433505 Question Type : MCQ Option Shuffling : No Is Question Mandatory : No Calculator : None Response Time : N.A Think Time : N.A Minimum Instruction Time : 0
Correct Marks : 5 Wrong Marks : 1
Question Key Details :

Key	Value
Comprehension	MCQ

சேமிப்பாளர்களிடமிருந்து தொழில் முனைவோர்களுக்கு புதிய நிறுவனங்களை அமைத்திட வளங்களை மாற்றும் செய்வதற்கென்ற சந்தை செய்து தரும் வசதி என்பது:

1. முதன்மைச் சந்தை
2. இரண்டாம் நிலைச்சந்தை
3. பணச்சந்தை
4. கடன் சந்தை

Options :

485584134017. 1
485584134018. 2
485584134019. 3
485584134020. 4

Sub-Section Number :

2

Sub-Section Id :

4855842423

Question Shuffling Allowed :

No

Is Section Default? :

null

Question Number : 91 Question Id : 48558433506 Question Type : MCQ Option Shuffling : No Is Question Mandatory : No Calculator : None Response Time : N.A Think Time : N.A Minimum Instruction Time : 0

Correct Marks : 5 Wrong Marks : 1

Question Key Details :

Key	Value
Comprehension	Comp1

Case Study (41-45):

Vibha had created a unique all weather jackets which had solar panels embedded in it. The USP of the jacket was that, harnessing the solar energy it could keep the jacket warm like a heater and cold like an air conditioner depending on the weather. Her market was the youth who came out of the comfort of their homes to stay in hostels. The name of her product was 'TURN COAT' which was beautifully written in comic sans font outside her showroom in FLD Mall. The name had a rising sun next to it making it an attractive composition to look at. Vibha was reading a lot of literature on the promotion strategies that she could use. She had already fixed a public appearance by the superstar Ralia Kapoor at her showroom in 15 days. She opened up Instagram and Twitter accounts in the name of 'TURN COAT'. She got the name of the product and the symbol of the rising sun printed on the parking ticket, that were collected by customers coming to the mall. While deciding on the pricing she was suggested by her mentor to keep the price very high to recover her R & D costs spent on developing the product. She was a little hesitant to do so and decided to price TURN COAT by covering the cost of producing it plus with reasonable profits

The name of Vibha's product 'TURN COAT' written in Comic sans font and the rising sun next to the name is:

1. Brand Mark
2. Logo
3. Brand Name
4. Trade Mark

Options :

- 485584134021. 1
- 485584134022. 2
- 485584134023. 3
- 485584134024. 4

Question Number : 91 Question Id : 48558433506 Question Type : MCQ Option Shuffling : No Is Question Mandatory : No Calculator : None Response Time : N.A Think Time : N.A Minimum Instruction Time : 0

Correct Marks : 5 Wrong Marks : 1

Question Key Details :

Key	Value
Comprehension	Comp1

தேர்வு ஆய்வு(41-45):

விபா: ஒரு தனிப்பட்ட, சூரிய பேனல்கள் பொதிக்கப்பட்ட, அனைத்து வானிலை ஜாக்கெட்டுகளை உருவாக்கி உள்ளார். அந்த ஜாக்கெட்டின் USP என்பது, சூரிய ஆற்றலை பெற்று, ஜாக்கெட்டை ஒரு வெப்பமூட்டி போன்றும், ஒரு அரை குளிர்விப்பான் போன்றும், வானிலைக்கு தக்கவாறு தக்க வைக்க வல்லது. தமது வீட்டின் வசதியை விட்டு வெளியேறி விடுதியில் தங்கி உள்ள இளைஞர்கள், அவரது சந்தையாளர், அவருடைய விற்பனைப்பொருளது பெயர் "TURNCOAT". அது FLD மாலில் உள்ள அவரது காட்சி அறைக்கு வெளியே காமிக் சான்ஸ் எழுத்து வடிவத்தில் மிக அழகாக எழுதப்பட்டுள்ளது. அந்த பெயருக்கு பக்கத்தில் ஒரு உதிக்கும் சூரியனது படம் இருந்து, அது பார்ப்பதற்கு ஈர்க்கக்கூடிய அளவில் அமைத்திருந்தது. தான் பயன்படுத்தக்கூடியதென்று பல பிரச்சார உத்திகளுக்கான பல இலக்கியங்களை, விபா படித்தார். இன்னும் 15 நாட்களில் அவரது காட்சி அறைக்கு, பிரபல நட்சத்திர நடிகை ராலியா கபூரது பொதுத் தோற்றத்திற்கு ஆன ஏற்பாட்டை அவர் முன்பே செய்து இருந்தார். அவர் தனது இன்ஸ்டாக்ராம் மற்றும் ட்விட்டர் கணக்கில் "TURNCOAT" என்ற பக்கம் திறந்து இருந்தார். மாலுக்கு வரக்கூடிய நுகர்வோர்கள் சேகரிக்கும் வாகன நிறுத்தச்சீட்டில் பொருளது பெயர் மற்றும் உதிக்கின்ற சூரியனின் குறியீடு ஆகியவற்றை அச்சிட்டார். அவரது வழிகாட்டியின் ஆலோசனைப்படி, பொருளது தொடக்கவிலையை, பொருளை உருவாக்கச் செலவிட்ட செலவீனங்களை மீட்டெடுக்கும் விதமாக அதிகமாக நிர்ணயம் செய்தார். அதை அவர் செய்ய சிறிது தயங்கினார். பிறகு நியமான லாபங்களுடன் கூடிய உற்பத்திச் செலவுகளை எடுக்கும் விதமாக "TURNCOAT" அது விலையை நிர்ணயம் செய்தார்.

காமிக் லான்ஸ் எழுத்து வடிவத்திலும் அதற்கடுத்த உதிக்கின்ற சூரியனது குறியும் கொண்டு எழுதப்பட்ட விபாவின் உற்பத்திப்பொருளது 'TURN COAT' பெயர் என்பது:

1. ப்ராண்டு முத்திரை
2. லோகோ
3. ப்ராண்டு பெயர்
4. வணிக முத்திரை

Options :

485584134021. 1
485584134022. 2
485584134023. 3
485584134024. 4

Question Number : 92 Question Id : 48558433507 Question Type : MCQ Option Shuffling : No Is Question Mandatory : No Calculator : None Response Time : N.A Think Time : N.A Minimum Instruction Time : 0

Correct Marks : 5 Wrong Marks : 1

Question Key Details :

Key	Value
Comprehension	Comp1

Case Study (41-45):

Vibha had created a unique all weather jackets which had solar panels embedded in it. The USP of the jacket was that, harnessing the solar energy it could keep the jacket warm like a heater and cold like an air conditioner depending on the weather. Her market was the youth who came out of the comfort of their homes to stay in hostels. The name of her product was 'TURN COAT' which was beautifully written in comic sans font outside her showroom in FLD Mall. The name had a rising sun next to it making it an attractive composition to look at. Vibha was reading a lot of literature on the promotion strategies that she could use. She had already fixed a public appearance by the superstar Ralia Kapoor at her showroom in 15 days. She opened up Instagram and Twitter accounts in the name of 'TURN COAT'. She got the name of the product and the symbol of the rising sun printed on the parking ticket, that were collected by customers coming to the mall. While deciding on the pricing she was suggested by her mentor to keep the price very high to recover her R & D costs spent on developing the product. She was a little hesitant to do so and decided to price TURN COAT by covering the cost of producing it plus with reasonable profits

The celebrity appearance of Ralia Kapoor at Vibha's showroom can be categorized as a part of:

1. Advertising
2. Public relations
3. Product placement
4. Sales promotion

Options :

- 485584134025. 1
- 485584134026. 2
- 485584134027. 3
- 485584134028. 4

Question Number : 92 Question Id : 48558433507 Question Type : MCQ Option Shuffling : No Is Question Mandatory : No Calculator : None Response Time : N.A Think Time : N.A Minimum Instruction Time : 0

Correct Marks : 5 Wrong Marks : 1

Question Key Details :

Key	Value
Comprehension	Comp1

தேர்வு ஆய்வு(41-45):

விபா: ஒரு தனிப்பட்ட, சூரிய பேனல்கள் பொதிக்கப்பட்ட, அனைத்து வானிலை ஜாக்கெட்டுகளை உருவாக்கி உள்ளார். அந்த ஜாக்கெட்டின் USP என்பது, சூரிய ஆற்றலை பெற்று, ஜாக்கெட்டை ஒரு வெப்பமூட்டி போன்றும், ஒரு அரை குளிர்விப்பான் போன்றும், வானிலைக்கு தக்கவாறு தக்க வைக்க வல்லது. தமது வீட்டின் வசதியை விட்டு வெளியேறி விடுதியில் தங்கி உள்ள இளைஞர்கள், அவரது சந்தையாளர், அவருடைய விற்பனைப்பொருளது பெயர் "TURNCOAT". அது FLD மாலில் உள்ள அவரது காட்சி அறைக்கு வெளியே காமிக் சான்ஸ் எழுத்து வடிவத்தில் மிக அழகாக எழுதப்பட்டுள்ளது. அந்த பெயருக்கு பக்கத்தில் ஒரு உதிக்கும் சூரியனது படம் இருந்து, அது பார்ப்பதற்கு ஈர்க்கக்கூடிய அளவில் அமைத்திருந்தது. தான் பயன்படுத்தக்கூடியதென்று பல பிரச்சார உத்திகளுக்கான பல இலக்கியங்களை, விபா படித்தார். இன்னும் 15 நாட்களில் அவரது காட்சி அறைக்கு, பிரபல நட்சத்திர நடிகை ராலியா கபூரது பொதுத் தோற்றத்திற்கு ஆன ஏற்பாட்டை அவர் முன்பே செய்து இருந்தார். அவர் தனது இன்ஸ்டாக்ராம் மற்றும் ட்விட்டர் கணக்கில் "TURNCOAT" என்ற பக்கம் திறந்து இருந்தார். மாலுக்கு வரக்கூடிய நுகர்வோர்கள் சேகரிக்கும் வாகன நிறுத்தச்சீட்டில் பொருளது பெயர் மற்றும் உதிக்கின்ற சூரியனின் குறியீடு ஆகியவற்றை அச்சிட்டார். அவரது வழிகாட்டியின் ஆலோசனைப்படி, பொருளது தொடக்கவிலையை, பொருளை உருவாக்கச் செலவிட்ட செலவீனங்களை மீட்டெடுக்கும் விதமாக அதிகமாக நிர்ணயம் செய்தார். அதை அவர் செய்ய சிறிது தயங்கினார். பிறகு நியமான லாபங்களுடன் கூடிய உற்பத்திச் செலவுகளை எடுக்கும் விதமாக "TURNCOAT" அது விலையை நிர்ணயம் செய்தார்.

விபாவது காட்சியறையில் ராலியா கபூர் எனும் பிரபலமானவரின் தோற்றம் என்பது இந்த பாக்கத்தில் வகைப்படுத்த முடியும்:

1. விளம்பரபடுத்தும்
2. பொதுமக்கள் தொடர்பு
3. உற்பத்திப்பொருள் அமர்வு
4. விற்பனைப் பிரச்சாரம்

Options :

485584134025. 1
485584134026. 2
485584134027. 3
485584134028. 4

Question Number : 93 Question Id : 48558433508 Question Type : MCQ Option Shuffling : No Is Question Mandatory : No Calculator : None Response Time : N.A Think Time : N.A Minimum Instruction Time : 0

Correct Marks : 5 Wrong Marks : 1

Question Key Details :

Key	Value
Comprehension	Comp1

Case Study (41-45):

Vibha had created a unique all weather jackets which had solar panels embedded in it. The USP of the jacket was that, harnessing the solar energy it could keep the jacket warm like a heater and cold like an air conditioner depending on the weather. Her market was the youth who came out of the comfort of their homes to stay in hostels. The name of her product was 'TURN COAT' which was beautifully written in comic sans font outside her showroom in FLD Mall. The name had a rising sun next to it making it an attractive composition to look at. Vibha was reading a lot of literature on the promotion strategies that she could use. She had already fixed a public appearance by the superstar Ralia Kapoor at her showroom in 15 days. She opened up Instagram and Twitter accounts in the name of 'TURN COAT'. She got the name of the product and the symbol of the rising sun printed on the parking ticket, that were collected by customers coming to the mall. While deciding on the pricing she was suggested by her mentor to keep the price very high to recover her R & D costs spent on developing the product. She was a little hesitant to do so and decided to price TURN COAT by covering the cost of producing it plus with reasonable profits

The pricing technique that was suggested to Vibha and the one that she finally used can be identified as-

- A. Variable pricing
- B. Penetration pricing
- C. Skimming pricing
- D. Fixed cost pricing
- E. Cost-plus pricing

Choose the correct answer from the options given below:

- 1. C & E only
- 2. A & B only
- 3. B & D only
- 4. C & D only

Options :

- 485584134029. 1
- 485584134030. 2
- 485584134031. 3
- 485584134032. 4

Question Number : 93 Question Id : 48558433508 Question Type : MCQ Option Shuffling : No Is Question Mandatory : No Calculator : None Response Time : N.A Think Time : N.A Minimum Instruction Time : 0

Correct Marks : 5 Wrong Marks : 1

Question Key Details :

Key	Value
Comprehension	Comp1

தேர்வு ஆய்வு(41-45):

விபா: ஒரு தனிப்பட்ட, சூரிய பேனல்கள் பொதிக்கப்பட்ட, அனைத்து வானிலை ஜாக்கெட்டுகளை உருவாக்கி உள்ளார். அந்த ஜாக்கெட்டின் USP என்பது, சூரிய ஆற்றலை பெற்று, ஜாக்கெட்டை ஒரு வெப்பமூட்டி போன்றும், ஒரு அரை குளிர்விப்பான் போன்றும், வானிலைக்கு தக்கவாறு தக்க வைக்க வல்லது. தமது வீட்டின் வசதியை விட்டு வெளியேறி விடுதியில் தங்கி உள்ள இளைஞர்கள், அவரது சந்தையாளர், அவருடைய விற்பனைப்பொருளது பெயர் "TURNCOAT". அது FLD மாலில் உள்ள அவரது காட்சி அறைக்கு வெளியே காமிக் சான்ஸ் எழுத்து வடிவத்தில் மிக அழகாக எழுதப்பட்டுள்ளது. அந்த பெயருக்கு பக்கத்தில் ஒரு உதிக்கும் சூரியனது படம் இருந்து, அது பார்ப்பதற்கு ஈர்க்கக்கூடிய அளவில் அமைத்திருந்தது. தான் பயன்படுத்தக்கூடியதென்று பல பிரச்சார உத்திகளுக்கான பல இலக்கியங்களை, விபா படித்தார். இன்னும் 15 நாட்களில் அவரது காட்சி அறைக்கு, பிரபல நட்சத்திர நடிகை ராலியா கபூரது பொதுத் தோற்றத்திற்கு ஆன ஏற்பாட்டை அவர் முன்பே செய்து இருந்தார். அவர் தனது இன்ஸ்டாக்ராம் மற்றும் ட்விட்டர் கணக்கில் "TURNCOAT" என்ற பக்கம் திறந்து இருந்தார். மாலுக்கு வரக்கூடிய நுகர்வோர்கள் சேகரிக்கும் வாகன நிறுத்தச்சீட்டில் பொருளது பெயர் மற்றும் உதிக்கின்ற சூரியனின் குறியீடு ஆகியவற்றை அச்சிட்டார். அவரது வழிகாட்டியின் ஆலோசனைப்படி, பொருளது தொடக்கவிலையை, பொருளை உருவாக்கச் செலவிட்ட செலவீனங்களை மீட்டெடுக்கும் விதமாக அதிகமாக நிர்ணயம் செய்தார். அதை அவர் செய்ய சிறிது தயங்கினார். பிறகு நியமான லாபங்களுடன் கூடிய உற்பத்திச் செலவுகளை எடுக்கும் விதமாக "TURNCOAT" அது விலையை நிர்ணயம் செய்தார்.

விபாவிற்கு ஆலோசனை வழங்கப்பட்ட, அவர் இறுதியாக பயன்படுத்திய விலைமதிப்பீட்டு நுட்பம் என்பது இவ்வாறு அடையாளம் காணமுடியும்

- A. மாறுபடும் விலைமதிப்பீடு
- B. ஊடுறவு விலைமதிப்பீடு
- C. மட்டுப்படுத்தும் விலைமதிப்பீடு
- D. நிலையான விலைமதிப்பீடு
- E. செலவுகளுடன் கூடிய விலைமதிப்பீடு

கீழே தரப்பட்டுள்ள வாய்ப்புகளில் இருந்து சரியான விடையைத் தேர்ந்தெடுக்கவும்:

- 1. C & E மட்டும்
- 2. A & B மட்டும்
- 3. B & D மட்டும்
- 4. C & D மட்டும்

Options :

- 485584134029. 1
- 485584134030. 2
- 485584134031. 3
- 485584134032. 4

Question Number : 94 Question Id : 48558433509 Question Type : MCQ Option Shuffling : No Is Question Mandatory : No Calculator : None Response Time : N.A Think Time : N.A Minimum Instruction Time : 0

Correct Marks : 5 Wrong Marks : 1

Question Key Details :

Key	Value
Comprehension	Comp1

Case Study (41-45):

Vibha had created a unique all weather jackets which had solar panels embedded in it. The USP of the jacket was that, harnessing the solar energy it could keep the jacket warm like a heater and cold like an air conditioner depending on the weather. Her market was the youth who came out of the comfort of their homes to stay in hostels. The name of her product was 'TURN COAT' which was beautifully written in comic sans font outside her showroom in FLD Mall. The name had a rising sun next to it making it an attractive composition to look at. Vibha was reading a lot of literature on the promotion strategies that she could use. She had already fixed a public appearance by the superstar Ralia Kapoor at her showroom in 15 days. She opened up Instagram and Twitter accounts in the name of 'TURN COAT'. She got the name of the product and the symbol of the rising sun printed on the parking ticket, that were collected by customers coming to the mall. While deciding on the pricing she was suggested by her mentor to keep the price very high to recover her R & D costs spent on developing the product. She was a little hesitant to do so and decided to price TURN COAT by covering the cost of producing it plus with reasonable profits

The name of the product and the symbol printed on the parking tickets is an example of :

1. Above-the-line approach
2. Public Relations
3. Ambient (Media Mix)
4. Business Promotion (Sales promotion)

Options :

- 485584134033. 1
- 485584134034. 2
- 485584134035. 3
- 485584134036. 4

Question Number : 94 Question Id : 48558433509 Question Type : MCQ Option Shuffling : No Is Question Mandatory : No Calculator : None Response Time : N.A Think Time : N.A Minimum Instruction Time : 0

Correct Marks : 5 Wrong Marks : 1

Question Key Details :

Key	Value
Comprehension	Comp1

தேர்வு ஆய்வு(41-45):

விபா: ஒரு தனிப்பட்ட, சூரிய பேனல்கள் பொதிக்கப்பட்ட, அனைத்து வானிலை ஜாக்கெட்டுகளை உருவாக்கி உள்ளார். அந்த ஜாக்கெட்டின் USP என்பது, சூரிய ஆற்றலை பெற்று, ஜாக்கெட்டை ஒரு வெப்பமூட்டி போன்றும், ஒரு அரை குளிர்விப்பான் போன்றும், வானிலைக்கு தக்கவாறு தக்க வைக்க வல்லது. தமது வீட்டின் வசதியை விட்டு வெளியேறி விடுதியில் தங்கி உள்ள இளைஞர்கள், அவரது சந்தையாளர், அவருடைய விற்பனைப்பொருளது பெயர் "TURNCOAT". அது FLD மாலில் உள்ள அவரது காட்சி அறைக்கு வெளியே காமிக் சான்ஸ் எழுத்து வடிவத்தில் மிக அழகாக எழுதப்பட்டுள்ளது. அந்த பெயருக்கு பக்கத்தில் ஒரு உதிக்கும் சூரியனது படம் இருந்து, அது பார்ப்பதற்கு ஈர்க்கக்கூடிய அளவில் அமைத்திருந்தது. தான் பயன்படுத்தக்கூடியதென்று பல பிரச்சார உத்திகளுக்கான பல இலக்கியங்களை, விபா படித்தார். இன்னும் 15 நாட்களில் அவரது காட்சி அறைக்கு, பிரபல நட்சத்திர நடிகை ராலியா கபூரது பொதுத் தோற்றத்திற்கு ஆன ஏற்பாட்டை அவர் முன்பே செய்து இருந்தார். அவர் தனது இன்ஸ்டாக்ராம் மற்றும் ட்விட்டர் கணக்கில் "TURNCOAT" என்ற பக்கம் திறந்து இருந்தார். மாலுக்கு வரக்கூடிய நுகர்வோர்கள் சேகரிக்கும் வாகன நிறுத்தச்சீட்டில் பொருளது பெயர் மற்றும் உதிக்கின்ற சூரியனின் குறியீடு ஆகியவற்றை அச்சிட்டார். அவரது வழிகாட்டியின் ஆலோசனைப்படி, பொருளது தொடக்கவிலையை, பொருளை உருவாக்கச் செலவிட்ட செலவீனங்களை மீட்டெடுக்கும் விதமாக அதிகமாக நிர்ணயம் செய்தார். அதை அவர் செய்ய சிறிது தயங்கினார். பிறகு நியமான லாபங்களுடன் கூடிய உற்பத்திச் செலவுகளை எடுக்கும் விதமாக "TURNCOAT" அது விலையை நிர்ணயம் செய்தார்.

வாகன நிறுத்தச்சீட்டில் அச்சிடப்பட்டிருந்த விற்பனைப் பொருளது பெயர் மற்றும் குறியீடு என்பது இதற்கான எடுத்துக்காட்டாகும்:

1. கோட்டிற்கு மேலான அணுகுமுறை
2. பொதுமக்கள் தொடர்பு
3. சூழல் (ஊடகக் கலவை)
4. வணிகப் பிரச்சாரம்(விற்பனைப் பிரச்சாரம்)

Options :

485584134033. 1
485584134034. 2
485584134035. 3
485584134036. 4

Question Number : 95 Question Id : 48558433510 Question Type : MCQ Option Shuffling : No Is Question Mandatory : No Calculator : None Response Time : N.A Think Time : N.A Minimum Instruction Time : 0

Correct Marks : 5 Wrong Marks : 1

Question Key Details :

Key	Value
Comprehension	Comp1

Case Study (41-45):

Vibha had created a unique all weather jackets which had solar panels embedded in it. The USP of the jacket was that, harnessing the solar energy it could keep the jacket warm like a heater and cold like an air conditioner depending on the weather. Her market was the youth who came out of the comfort of their homes to stay in hostels. The name of her product was 'TURN COAT' which was beautifully written in comic sans font outside her showroom in FLD Mall. The name had a rising sun next to it making it an attractive composition to look at. Vibha was reading a lot of literature on the promotion strategies that she could use. She had already fixed a public appearance by the superstar Ralia Kapoor at her showroom in 15 days. She opened up Instagram and Twitter accounts in the name of 'TURN COAT'. She got the name of the product and the symbol of the rising sun printed on the parking ticket, that were collected by customers coming to the mall. While deciding on the pricing she was suggested by her mentor to keep the price very high to recover her R & D costs spent on developing the product. She was a little hesitant to do so and decided to price TURN COAT by covering the cost of producing it plus with reasonable profits

Promoting her product on instagram and twitter accounts would fall under:

1. Above the line approach
2. Below the line approach
3. Through the line approach
4. Indirect sales strategy approach

Options :

- 485584134037. 1
- 485584134038. 2
- 485584134039. 3
- 485584134040. 4

Question Number : 95 Question Id : 48558433510 Question Type : MCQ Option Shuffling : No Is Question Mandatory : No Calculator : None Response Time : N.A Think Time : N.A Minimum Instruction Time : 0

Correct Marks : 5 Wrong Marks : 1

Question Key Details :

Key	Value
Comprehension	Comp1

தேர்வு ஆய்வு(41-45):

விபா: ஒரு தனிப்பட்ட, சூரிய பேனல்கள் பொதிக்கப்பட்ட, அனைத்து வானிலை ஜாக்கெட்டுகளை உருவாக்கி உள்ளார். அந்த ஜாக்கெட்டின் USP என்பது, சூரிய ஆற்றலை பெற்று, ஜாக்கெட்டை ஒரு வெப்பமூட்டி போன்றும், ஒரு அரை குளிர்விப்பான் போன்றும், வானிலைக்கு தக்கவாறு தக்க வைக்க வல்லது. தமது வீட்டின் வசதியை விட்டு வெளியேறி விடுதியில் தங்கி உள்ள இளைஞர்கள், அவரது சந்தையாளர், அவருடைய விற்பனைப்பொருளது பெயர் "TURNCOAT". அது FLD மாலில் உள்ள அவரது காட்சி அறைக்கு வெளியே காமிக் சான்ஸ் எழுத்து வடிவத்தில் மிக அழகாக எழுதப்பட்டுள்ளது. அந்த பெயருக்கு பக்கத்தில் ஒரு உதிக்கும் சூரியனது படம் இருந்து, அது பார்ப்பதற்கு ஈர்க்கக்கூடிய அளவில் அமைத்திருந்தது. தான் பயன்படுத்தக்கூடியதென்று பல பிரச்சார உத்திகளுக்கான பல இலக்கியங்களை, விபா படித்தார். இன்னும் 15 நாட்களில் அவரது காட்சி அறைக்கு, பிரபல நட்சத்திர நடிகை ராலியா கபூரது பொதுத் தோற்றத்திற்கு ஆன ஏற்பாட்டை அவர் முன்பே செய்து இருந்தார். அவர் தனது இன்ஸ்டாக்ராம் மற்றும் ட்விட்டர் கணக்கில் "TURNCOAT" என்ற பக்கம் திறந்து இருந்தார். மாலுக்கு வரக்கூடிய நுகர்வோர்கள் சேகரிக்கும் வாகன நிறுத்தச்சீட்டில் பொருளது பெயர் மற்றும் உதிக்கின்ற சூரியனின் குறியீடு ஆகியவற்றை அச்சிட்டார். அவரது வழிகாட்டியின் ஆலோசனைப்படி, பொருளது தொடக்கவிலையை, பொருளை உருவாக்கச் செலவிட்ட செலவீனங்களை மீட்டெடுக்கும் விதமாக அதிகமாக நிர்ணயம் செய்தார். அதை அவர் செய்ய சிறிது தயங்கினார். பிறகு நியமான லாபங்களுடன் கூடிய உற்பத்திச் செலவுகளை எடுக்கும் விதமாக "TURNCOAT" அது விலையை நிர்ணயம் செய்தார்.

அவரது விற்பனைப் பொருளை இன்ஸ்டாகிராம் மற்றும் டிவிட்டர் கணக்குகளில் பிரச்சாரம் செய்தது இதன் கீழ் வரும்:

1. கோட்டிற்கு மேலான அணுகுமுறை
2. கோட்டிற்கு கீழான அணுகுமுறை
3. கோட்டிற்கு வழியான அணுகுமுறை
4. மறைமுகமான விற்பனை உத்தி அணுகுமுறை

Options :

485584134037. 1
485584134038. 2
485584134039. 3
485584134040. 4

Sub-Section Number :

3

Sub-Section Id :

4855842424

Question Shuffling Allowed :

No

Is Section Default? :

null

Question Number : 96 Question Id : 48558433511 Question Type : MCQ Option Shuffling : No Is Question Mandatory : No Calculator : None Response Time : N.A Think Time : N.A Minimum Instruction Time : 0

Correct Marks : 5 Wrong Marks : 1

Question Key Details :

Key	Value
Comprehension	Comp2

Mergers: Read the case and answer the questions (46-50)

Gaurav owned an event management company called 'Lotus Ltd.' in Mumbai. He used to organise weddings, meetings, conferences, etc. These events were full of activities, music, food and entertainment. He used to outsource decoration material, food as well as entertainment from different vendors.

Ms. Geetika was an owner of catering and decoration company called Miles Ltd. in Mumbai. She used to cater the food and decoration needs of various customers such as corporate as well as family functions.

Gaurav & Geetika were performing well in their respective businesses until covid-19 lockdown was introduced. Due to lack of demand for food, decoration and events, both the companies started facing losses. As the lockdown was lifted, nearly after a year, both Gaurav and Geetika were facing problems in managing their increasing operational costs with lesser number of customers. As they were planning to look for better business opportunity, they got to meet each other at an 'exponential' organised by trades of Mumbai at BKC ground.

In this 'exponential', there were different traders sharing their business ideas with each other. Hence, it was here that Gaurav and Geetika decided to restart their business by merging their operations with a new company name. 'G² Lotus Miles Ltd'. They both shared their contacts of vendors and customers with each other and started getting order for events, food, decoration, entertainment, etc. Their business started blooming as their costs were lesser and more customers with demand of services given by Gaurav and Geetika.

Now its been two years that both of them have grown their business into other cities of Maharashtra like, Pune, Ahmednagar and Nagpur under the company name of 'G² Lotus Miles Ltd'. The company is growing with increased annual sales of 30%.

Which of the following is applicable in case of "G² Lotus Miles ltd"?

1. Product extension merger
2. Market extension merger
3. Vertical merger
4. Horizontal merger

Options :

- 485584134041. 1
- 485584134042. 2
- 485584134043. 3
- 485584134044. 4

Question Number : 96 Question Id : 48558433511 Question Type : MCQ Option Shuffling : No Is Question Mandatory : No Calculator : None Response Time : N.A Think Time : N.A Minimum Instruction Time : 0

Correct Marks : 5 Wrong Marks : 1

Question Key Details :

Key	Value
Comprehension	Comp2

இணைவுகள்: நேர்வைப் படித்து (46-50) வினாக்களுக்கு விடையளி:

கௌரவ் என்பவர் மும்பையில் 'லோட்டஸ் லிமிடெட்' என்ற நிகழ்ச்சி மேலாண்மை நிறுவனத்தை சொந்தமாக வைத்திருந்தார். அவர் திருமணங்கள், கூட்டங்கள், கருத்தரங்குகள் போன்றவற்றை நிர்வகிக்க உதவுகின்றார். இந்த நிகழ்ச்சிகள் முழுவதும் நடவடிக்கைகள், இசை, உணவு மற்றும் பொழுதுபோக்கு நடவடிக்கைகள் ஆகியவற்றால் ஆனவை. அவர் அலங்காரப் பொருட்கள், உணவு மற்றும் பொழுதுபோக்கு சாமான்களுக்கு வெளியட்களான பல்வேறு விற்பனையாளரைப் பயன்படுத்துவார்.

மும்பையில், 'மைல்ஸ் லிமிடெட்' எனப்படும் கேட்ரிங் மற்றும் அலங்கார நிறுவனத்தின் உரிமையாளர், செல்வி.கீதிக்கா ஆவார். கார்பரேட்(பெரிய தொழில்) மற்றும் குடும்ப விழாக்கள் போன்ற பலதரப்பட்ட நுகர்வோர்களின் உணவு மற்றும் ஆலங்காரத்திற்கு தேவையானவற்றை வழங்கி உதவுகிறார். COVID-19 லாக் டவுன் அறிமுகப்படுத்தும் வரை, கௌரவ் மற்றும் கீத்திகா ஆகிய இருவரும் தங்களுக்குரிய வியாபாரத்தை நன்கு நடத்திவந்தனர். உணவு, அலங்கார மற்றும் நிகழ்ச்சிகளுக்கான தேவை இல்லாத நிலையில், இரு நிறுவனங்களும் நஷ்டத்தை பார்க்கத் துவங்கின. ஏறக்குறைய ஓராண்டிற்கு பிறகு, லாக் டவுன் எடுக்கப்பட்டபின், கௌரவ் மற்றும் கீத்திகா இருவரும் குறைந்த எண்ணிக்கையிலான வாடிக்கையாளர்களோடு அதிகமான செயல்படுத்தும் செலவுகளோடு நிர்வகிப்பதில் பிரச்சனைகளை எதிர் நோக்குகின்றனர். அவர்கள் இதைவிடச் சிறந்த வணிக வாய்ப்பிற்காக பார்க்கத்திட்டமிட்ட நிலையில், மும்பையின் BKC மைதானத்தில், வணிகர்களால் ஒருங்கிணைக்கப்பட்ட "எக்ஸ்போனேன்சியல்" ஒன்றில் இருவரும் ஒருவரையொருவர் சந்தித்து கொள்ள நேரிட்டது.

இந்த எக்ஸ்போனேன்சியல் ஒருவருக்கொருவர் தங்களது வணிக கருத்துக்களை/சிந்தனைகளை பங்கிட்டுக் கொண்டனர். ஆதலால், இங்குதான் கௌரவ் மற்றும் கீதிக்கா தங்களது நடவடிக்கைகளை இணைத்து 'G2 லோட்டஸ் மைல்ஸ் லிமிடெட்' எனும் புதிய நிறுவனப் பெயரில் வணிகம் துவங்குவதற்கு முடிவு செய்தனர். அவர்கள் ஒருவருக்கு ஒருவரை தங்களது விற்பனையாளர்கள் மற்றும் வாடிக்கையாளர்களின் தொடர்புகளை பரிமாறிக் கொண்டனர். மேலும் அதன் மூலம் நிகழ்ச்சிகளுக்கான உணவு, அலங்கார பொழுதுபோக்கு போன்ற ஆர்டர்களை பெறத்துவங்கினர். அவர்களது வியாபாரம் பூத்துக்குலங்கத் துவங்கியது. கௌரவ் மற்றும் கீத்திகா ஆகியவர்கள் தந்த சேவைகளுக்கான தேவை கொண்ட வாடிக்கையாளர்கள் அதிகமானவர்கள் கிடைத்தாலும் குறைந்த செலவீனத்தில் இது நடந்தது.

அவர்கள் இருவரும் தங்களது வியாபாரத்தை புனே, அஹமதுநகர் மற்றும் நாக்பூர் போன்ற மகாராஷ்டிராவின் பிற நகரங்களில் 'G2 லோட்டஸ் மைல்ஸ் லிமிடெட்' என்ற நிறுவனப் பெயரில் தொழிலை வளர்க்க ஆரம்பித்து இன்று இரண்டு ஆண்டுகள் கடந்துவிட்டன. அந்த நிறுவனம் இப்போது 30% எனும் கூடுதலான ஆண்டு விற்பனையோடு வளர்ந்து வருகிறது.

'G2 லோட்டஸ் மைல்ஸ் லிமிடெட்' என்ற நேர்வுக்கு செலுத்தப்பட கூடியது எது?

1. உற்பத்திப்பொருள் விரிவாக்க இணைவு
2. சந்தை விரிவாக்க இணைவு
3. செங்குத்து விரிவாக்க இணைவு
4. கிடைமட்ட விரிவாக்க இணைவு

Options :

485584134041. 1
485584134042. 2
485584134043. 3
485584134044. 4

Question Number : 97 Question Id : 48558433512 Question Type : MCQ Option Shuffling : No Is Question Mandatory : No Calculator : None Response Time : N.A Think Time : N.A Minimum Instruction Time : 0

Correct Marks : 5 Wrong Marks : 1

Question Key Details :

Key	Value
Comprehension	Comp2

Mergers: Read the case and answer the questions (46-50)

Gaurav owned an event management company called 'Lotus Ltd.' in Mumbai. He used to organise weddings, meetings, conferences, etc. These events were full of activities, music, food and entertainment. He used to outsource decoration material, food as well as entertainment from different vendors.

Ms. Geetika was an owner of catering and decoration company called Miles Ltd. in Mumbai. She used to cater the food and decoration needs of various customers such as corporate as well as family functions.

Gaurav & Geetika were performing well in their respective businesses until covid-19 lockdown was introduced. Due to lack of demand for food, decoration and events, both the companies started facing losses. As the lockdown was lifted, nearly after a year, both Gaurav and Geetika were facing problems in managing their increasing operational costs with lesser number of customers. As they were planning to look for better business opportunity, they got to meet each other at an 'exponential' organised by trades of Mumbai at BKC ground.

In this 'exponential', there were different traders sharing their business ideas with each other. Hence, it was here that Gaurav and Geetika decided to restart their business by merging their operations with a new company name. 'G² Lotus Miles Ltd'. They both shared their contacts of vendors and customers with each other and started getting order for events, food, decoration, entertainment, etc. Their business started blooming as their costs were lesser and more customers with demand of services given by Gaurav and Geetika.

Now its been two years that both of them have grown their business into other cities of Maharashtra like, Pune, Ahmednagar and Nagpur under the company name of 'G² Lotus Miles Ltd'. The company is growing with increased annual sales of 30%.

The new company so formed "G² Lotus Miles Ltd" is an example of:

1. Acquisition
2. Franchising
3. Amalgamation
4. Absorption

Options :

- 485584134045. 1
- 485584134046. 2
- 485584134047. 3
- 485584134048. 4

Question Number : 97 Question Id : 48558433512 Question Type : MCQ Option Shuffling : No Is Question Mandatory : No Calculator : None Response Time : N.A Think Time : N.A Minimum Instruction Time : 0

Correct Marks : 5 Wrong Marks : 1

Question Key Details :

Key	Value
Comprehension	Comp2

இணைவுகள்: நேர்வைப் படித்து (46-50) வினாக்களுக்கு விடையளி:

கௌரவ் என்பவர் மும்பையில் 'லோட்டஸ் லிமிடெட்' என்ற நிகழ்ச்சி மேலாண்மை நிறுவனத்தை சொந்தமாக வைத்திருந்தார். அவர் திருமணங்கள், கூட்டங்கள், கருத்தரங்குகள் போன்றவற்றை நிர்வகிக்க உதவுகின்றார். இந்த நிகழ்ச்சிகள் முழுவதும் நடவடிக்கைகள், இசை, உணவு மற்றும் பொழுதுபோக்கு நடவடிக்கைகள் ஆகியவற்றால் ஆனவை. அவர் அலங்காரப் பொருட்கள், உணவு மற்றும் பொழுதுபோக்கு சாமான்களுக்கு வெளியட்களான பல்வேறு விற்பனையாளரைப் பயன்படுத்துவார்.

மும்பையில், 'மைல்ஸ் லிமிடெட்' எனப்படும் கேட்ரிங் மற்றும் அலங்கார நிறுவனத்தின் உரிமையாளர், செல்வி.கீதிக்கா ஆவார். கார்பரேட்(பெரிய தொழில்) மற்றும் குடும்ப விழாக்கள் போன்ற பலதரப்பட்ட நுகர்வோர்களின் உணவு மற்றும் ஆலங்காரத்திற்கு தேவையானவற்றை வழங்கி உதவுகிறார். COVID-19 லாக் டவுன் அறிமுகப்படுத்தும் வரை, கௌரவ் மற்றும் கீத்திகா ஆகிய இருவரும் தங்களுக்குரிய வியாபாரத்தை நன்கு நடத்திவந்தனர். உணவு, அலங்கார மற்றும் நிகழ்ச்சிகளுக்கான தேவை இல்லாத நிலையில், இரு நிறுவனங்களும் நஷ்டத்தை பார்க்கத் துவங்கின. ஏறக்குறைய ஓராண்டிற்கு பிறகு, லாக் டவுன் எடுக்கப்பட்டபின், கௌரவ் மற்றும் கீத்திகா இருவரும் குறைந்த எண்ணிக்கையிலான வாடிக்கையாளர்களோடு அதிகமான செயல்படுத்தும் செலவுகளோடு நிர்வகிப்பதில் பிரச்சனைகளை எதிர் நோக்குகின்றனர். அவர்கள் இதைவிடச் சிறந்த வணிக வாய்ப்பிற்காக பார்க்கத்திட்டமிட்ட நிலையில், மும்பையின் BKC மைதானத்தில், வணிகர்களால் ஒருங்கிணைக்கப்பட்ட "எக்ஸ்போனேன்சியல்" ஒன்றில் இருவரும் ஒருவரையொருவர் சந்தித்து கொள்ள நேரிட்டது.

இந்த எக்ஸ்போனேன்சியல் ஒருவருக்கொருவர் தங்களது வணிக கருத்துக்களை/சிந்தனைகளை பங்கிட்டுக் கொண்டனர். ஆதலால், இங்குதான் கௌரவ் மற்றும் கீதிக்கா தங்களது நடவடிக்கைகளை இணைத்து 'G2 லோட்டஸ் மைல்ஸ் லிமிடெட்' எனும் புதிய நிறுவனப் பெயரில் வணிகம் துவங்குவதற்கு முடிவு செய்தனர். அவர்கள் ஒருவருக்கு ஒருவரை தங்களது விற்பனையாளர்கள் மற்றும் வாடிக்கையாளர்களின் தொடர்புகளை பரிமாறிக் கொண்டனர். மேலும் அதன் மூலம் நிகழ்ச்சிகளுக்கான உணவு, அலங்கார பொழுதுபோக்கு போன்ற ஆர்டர்களை பெறத்துவங்கினர். அவர்களது வியாபாரம் பூத்துக்குலங்கத் துவங்கியது. கௌரவ் மற்றும் கீத்திகா ஆகியவர்கள் தந்த சேவைகளுக்கான தேவை கொண்ட வாடிக்கையாளர்கள் அதிகமானவர்கள் கிடைத்தாலும் குறைந்த செலவீனத்தில் இது நடந்தது.

அவர்கள் இருவரும் தங்களது வியாபாரத்தை புனே, அஹமதுநகர் மற்றும் நாக்பூர் போன்ற மகாராஷ்டிராவின் பிற நகரங்களில் 'G2 லோட்டஸ் மைல்ஸ் லிமிடெட்' என்ற நிறுவனப் பெயரில் தொழிலை வளர்க்க ஆரம்பித்து இன்று இரண்டு ஆண்டுகள் கடந்துவிட்டன. அந்த நிறுவனம் இப்போது 30% எனும் கூடுதலான ஆண்டு விற்பனையோடு வளர்ந்து வருகிறது.

"G2 லோட்டஸ் மைல்ஸ் லிமிடெட்" என்று இவ்வாறு உருவாக்கப்பட்ட புதிய நிறுவனம் இதற்கானதொரு எடுத்துக்காட்டாகும்.

1. கையகப்படுத்துதல்
2. விற்பனை உரிமை பெறுதல் (அ) ஃபிரான்சைசிங்
3. ஒருங்கிணைத்தல்
4. உட்கவர்தல்

Options :

485584134045. 1
485584134046. 2
485584134047. 3
485584134048. 4

Question Number : 98 Question Id : 48558433513 Question Type : MCQ Option Shuffling : No Is Question Mandatory : No Calculator : None Response Time : N.A Think Time : N.A Minimum Instruction Time : 0

Correct Marks : 5 Wrong Marks : 1

Question Key Details :

Key	Value
Comprehension	Comp2

Mergers: Read the case and answer the questions (46-50)

Gaurav owned an event management company called 'Lotus Ltd.' in Mumbai. He used to organise weddings, meetings, conferences , etc. These events were full of activities, music, food and entertainment. He used to outsource decoration material, food as well as entertainment from different vendors.

Ms. Geetika was an owner of catering and decoration company called Miles Ltd. in Mumbai. She used to cater the food and decoration needs of various customers such as corporate as well as family functions.

Gaurav & Geetika were performing well in their respective businesses until covid-19 lockdown was introduced. Due to lack of demand for food, decoration and events, both the companies started facing losses. As the lockdown was lifted, nearly after a year, both Gaurav and Geetika were facing problems in managing their increasing operational costs with lesser number of customers. As they were planning to look for better business opportunity, they got to meet each other at an 'exponential' organised by trades of Mumbai at BKC ground.

In this 'exponential', there were different traders sharing their business ideas with each other. Hence, it was here that Gaurav and Geetika decided to restart their business by merging their operations with a new company name. 'G² Lotus Miles Ltd'. They both shared their contacts of vendors and sutomers with each other and started getting order for events, food, decoration, entertainment, etc. Their business started blooming as their costs were lesser and more customers with demand of services given by Gaurav and Geetika.

Now its been two years that both of them have grown their business into other cities of Maharastra like, Pune, Ahmednagar and Nagpur under the company name of 'G² Lotus Miles Ltd'. The company is growing with increased annual sales of 30%.

"G² Lotus Miles Ltd." is related to-

1. Manufacturing
2. Service
3. Distribution
4. Trading

Options :

- 485584134049. 1
- 485584134050. 2
- 485584134051. 3
- 485584134052. 4

Question Number : 98 Question Id : 48558433513 Question Type : MCQ Option Shuffling : No Is Question Mandatory : No Calculator : None Response Time : N.A Think Time : N.A Minimum Instruction Time : 0

Correct Marks : 5 Wrong Marks : 1

Question Key Details :

Key	Value
-----	-------

இணைவுகள்: நேர்வைப் படித்து (46-50) வினாக்களுக்கு விடையளி:

கௌரவ் என்பவர் மும்பையில் 'லோட்டஸ் லிமிடெட்' என்ற நிகழ்ச்சி மேலாண்மை நிறுவனத்தை சொந்தமாக வைத்திருந்தார். அவர் திருமணங்கள், கூட்டங்கள், கருத்தரங்குகள் போன்றவற்றை நிர்வகிக்க உதவுகின்றார். இந்த நிகழ்ச்சிகள் முழுவதும் நடவடிக்கைகள், இசை, உணவு மற்றும் பொழுதுபோக்கு நடவடிக்கைகள் ஆகியவற்றால் ஆனவை. அவர் அலங்காரப் பொருட்கள், உணவு மற்றும் பொழுதுபோக்கு சாமான்களுக்கு வெளியட்களான பல்வேறு விற்பனையாளரைப் பயன்படுத்துவார்.

மும்பையில், 'மைல்ஸ் லிமிடெட்' எனப்படும் கேட்ரிங் மற்றும் அலங்கார நிறுவனத்தின் உரிமையாளர், செல்வி.கீதிக்கா ஆவார். கார்பரேட்(பெரிய தொழில்) மற்றும் குடும்ப விழாக்கள் போன்ற பலதரப்பட்ட நுகர்வோர்களின் உணவு மற்றும் ஆலங்காரத்திற்கு தேவையானவற்றை வழங்கி உதவுகிறார். COVID-19 லாக் டவுன் அறிமுகப்படுத்தும் வரை, கௌரவ் மற்றும் கீதிக்கா ஆகிய இருவரும் தங்களுக்குரிய வியாபாரத்தை நன்கு நடத்திவந்தனர். உணவு, அலங்கார மற்றும் நிகழ்ச்சிகளுக்கான தேவை இல்லாத நிலையில், இரு நிறுவனங்களும் நஷ்டத்தை பார்க்கத் துவங்கின. ஏறக்குறைய ஓராண்டிற்கு பிறகு, லாக் டவுன் எடுக்கப்பட்டபின், கௌரவ் மற்றும் கீதிக்கா இருவரும் குறைந்த எண்ணிக்கையிலான வாடிக்கையாளர்களோடு அதிகமான செயல்படுத்தும் செலவுகளோடு நிர்வகிப்பதில் பிரச்சனைகளை எதிர் நோக்குகின்றனர். அவர்கள் இதைவிடச் சிறந்த வணிக வாய்ப்பிற்காக பார்க்கத்திட்டமிட்ட நிலையில், மும்பையின் BKC மைதானத்தில், வணிகர்களால் ஒருங்கிணைக்கப்பட்ட "எக்ஸ்போனேன்சியல்" ஒன்றில் இருவரும் ஒருவரையொருவர் சந்தித்து கொள்ள நேரிட்டது.

இந்த எக்ஸ்போனேன்சியல் ஒருவருக்கொருவர் தங்களது வணிக கருத்துக்களை/சிந்தனைகளை பங்கிட்டுக் கொண்டனர். ஆதலால், இங்குதான் கௌரவ் மற்றும் கீதிக்கா தங்களது நடவடிக்கைகளை இணைத்து 'G2 லோட்டஸ் மைல்ஸ் லிமிடெட்' எனும் புதிய நிறுவனப் பெயரில் வணிகம் துவங்குவதற்கு முடிவு செய்தனர். அவர்கள் ஒருவருக்கு ஒருவரை தங்களது விற்பனையாளர்கள் மற்றும் வாடிக்கையாளர்களின் தொடர்புகளை பரிமாறிக் கொண்டனர். மேலும் அதன் மூலம் நிகழ்ச்சிகளுக்கான உணவு, அலங்கார பொழுதுபோக்கு போன்ற ஆர்டர்களை பெறத்துவங்கினர். அவர்களது வியாபாரம் பூத்துக்குலங்கத் துவங்கியது. கௌரவ் மற்றும் கீதிக்கா ஆகியவர்கள் தந்த சேவைகளுக்கான தேவை கொண்ட வாடிக்கையாளர்கள் அதிகமானவர்கள் கிடைத்தாலும் குறைந்த செலவீனத்தில் இது நடந்தது.

அவர்கள் இருவரும் தங்களது வியாபாரத்தை புனே, அஹமதுநகர் மற்றும் நாக்பூர் போன்ற மகாராஷ்டிராவின் பிற நகரங்களில் 'G2 லோட்டஸ் மைல்ஸ் லிமிடெட்' என்ற நிறுவனப் பெயரில் தொழிலை வளர்க்க ஆரம்பித்து இன்று இரண்டு ஆண்டுகள் கடந்துவிட்டன. அந்த நிறுவனம் இப்போது 30% எனும் கூடுதலான ஆண்டு விற்பனையோடு வளர்ந்து வருகிறது.

"G² லோட்டஸ் மைல்ஸ் லிமிடெட்" என்பது இதோடு தொடர்புடையது:

1. உற்பத்தி
2. சேவை
3. பங்கீடு
4. வணிக பரிவர்த்தனை

Options :

485584134049. 1
485584134050. 2
485584134051. 3
485584134052. 4

Question Number : 99 Question Id : 48558433514 Question Type : MCQ Option Shuffling : No Is Question Mandatory : No Calculator : None Response Time : N.A Think Time : N.A Minimum Instruction Time : 0

Correct Marks : 5 Wrong Marks : 1

Question Key Details :

Key	Value
Comprehension	Comp2

Mergers: Read the case and answer the questions (46-50)

Gaurav owned an event management company called 'Lotus Ltd.' in Mumbai. He used to organise weddings, meetings, conferences , etc. These events were full of activities, music, food and entertainment. He used to outsource decoration material, food as well as entertainment from different vendors.

Ms. Geetika was an owner of catering and decoration company called Miles Ltd. in Mumbai. She used to cater the food and decoration needs of various customers such as corporate as well as family functions.

Gaurav & Geetika were performing well in their respective businesses until covid-19 lockdown was introduced. Due to lack of demand for food, decoration and events, both the companies started facing losses. As the lockdown was lifted, nearly after a year, both Gaurav and Geetika were facing problems in managing their increasing operational costs with lesser number of customers. As they were planning to look for better business opportunity, they got to meet each other at an 'exponential' organised by trades of Mumbai at BKC ground.

In this 'exponential', there were different traders sharing their business ideas with each other. Hence, it was here that Gaurav and Geetika decided to restart their business by merging their operations with a new company name. 'G² Lotus Miles Ltd'. They both shared their contacts of vendors and sutomers with each other and started getting order for events, food, decoration, entertainment, etc. Their business started blooming as their costs were lesser and more customers with demand of services given by Gaurav and Geetika.

Now its been two years that both of them have grown their business into other cities of Maharastra like, Pune, Ahmednagar and Nagpur under the company name of 'G² Lotus Miles Ltd'. The company is growing with increased annual sales of 30%.

Match List I with List II

LIST I		LIST II	
A.	Event Management Company	I.	Miles Ltd
B.	External Expansion	II.	Lotus Ltd.
C.	Operational synergy	III.	Merger
D.	Catering and decoration company	IV.	G ² Lotus Miles Ltd

Choose the correct answer from the options given below:

1. A-I, B-III, C-II, D-IV
2. A-II, B-III, C-IV, D-I
3. A-III, B-II, C-IV, D-I
4. A-IV, B-III, C-II, D-I

Options :

- 485584134053. 1
- 485584134054. 2
- 485584134055. 3

Question Number : 99 Question Id : 48558433514 Question Type : MCQ Option Shuffling : No Is Question Mandatory : No Calculator : None Response Time : N.A Think Time : N.A Minimum Instruction Time : 0

Correct Marks : 5 Wrong Marks : 1

Question Key Details :

Key	Value
Comprehension	Comp2

இணைவுகள்: நேர்வைப் படித்து (46-50) வினாக்களுக்கு விடையளி:

கௌரவ் என்பவர் மும்பையில் 'லோட்டஸ் லிமிடெட்' என்ற நிகழ்ச்சி மேலாண்மை நிறுவனத்தை சொந்தமாக வைத்திருந்தார். அவர் திருமணங்கள், கூட்டங்கள், கருத்தரங்குகள் போன்றவற்றை நிர்வகிக்க உதவுகின்றார். இந்த நிகழ்ச்சிகள் முழுவதும் நடவடிக்கைகள், இசை, உணவு மற்றும் பொழுதுபோக்கு நடவடிக்கைகள் ஆகியவற்றால் ஆனவை. அவர் அலங்காரப் பொருட்கள், உணவு மற்றும் பொழுதுபோக்கு சாமான்களுக்கு வெளியட்களான பல்வேறு விற்பனையாளரைப் பயன்படுத்துவார்.

மும்பையில், 'மைல்ஸ் லிமிடெட்' எனப்படும் கேட்ரிங் மற்றும் அலங்கார நிறுவனத்தின் உரிமையாளர், செல்வி.கீதிக்கா ஆவார். கார்பரேட்(பெரிய தொழில்) மற்றும் குடும்ப விழாக்கள் போன்ற பலதரப்பட்ட நுகர்வோர்களின் உணவு மற்றும் ஆலங்காரத்திற்கு தேவையானவற்றை வழங்கி உதவுகிறார். COVID-19 லாக் டவுன் அறிமுகப்படுத்தும் வரை, கௌரவ் மற்றும் கீத்திகா ஆகிய இருவரும் தங்களுக்குரிய வியாபாரத்தை நன்கு நடத்திவந்தனர். உணவு, அலங்கார மற்றும் நிகழ்ச்சிகளுக்கான தேவை இல்லாத நிலையில், இரு நிறுவனங்களும் நஷ்டத்தை பார்க்கத் துவங்கின. ஏறக்குறைய ஓராண்டிற்கு பிறகு, லாக் டவுன் எடுக்கப்பட்டபின், கௌரவ் மற்றும் கீத்திகா இருவரும் குறைந்த எண்ணிக்கையிலான வாடிக்கையாளர்களோடு அதிகமான செயல்படுத்தும் செலவுகளோடு நிர்வகிப்பதில் பிரச்சனைகளை எதிர் நோக்குகின்றனர். அவர்கள் இதைவிடச் சிறந்த வணிக வாய்ப்பிற்காக பார்க்கத்திட்டமிட்ட நிலையில், மும்பையின் BKC மைதானத்தில், வணிகர்களால் ஒருங்கிணைக்கப்பட்ட "எக்ஸ்போனேன்சியல்" ஒன்றில் இருவரும் ஒருவரையொருவர் சந்தித்து கொள்ள நேரிட்டது.

இந்த எக்ஸ்போனேன்சியல் ஒருவருக்கொருவர் தங்களது வணிக கருத்துக்களை/சிந்தனைகளை பங்கிட்டுக் கொண்டனர். ஆதலால், இங்குதான் கௌரவ் மற்றும் கீதிக்கா தங்களது நடவடிக்கைகளை இணைத்து 'G2 லோட்டஸ் மைல்ஸ் லிமிடெட்' எனும் புதிய நிறுவனப் பெயரில் வணிகம் துவங்குவதற்கு முடிவு செய்தனர். அவர்கள் ஒருவருக்கு ஒருவரை தங்களது விற்பனையாளர்கள் மற்றும் வாடிக்கையாளர்களின் தொடர்புகளை பரிமாறிக் கொண்டனர். மேலும் அதன் மூலம் நிகழ்ச்சிகளுக்கான உணவு, அலங்கார பொழுதுபோக்கு போன்ற ஆர்டர்களை பெறத்துவங்கினர். அவர்களது வியாபாரம் பூத்துக்குலுங்கத் துவங்கியது. கௌரவ் மற்றும் கீத்திகா ஆகியவர்கள் தந்த சேவைகளுக்கான தேவை கொண்ட வாடிக்கையாளர்கள் அதிகமானவர்கள் கிடைத்தாலும் குறைந்த செலவீனத்தில் இது நடந்தது.

அவர்கள் இருவரும் தங்களது வியாபாரத்தை புனே, அஹமதுநகர் மற்றும் நாக்பூர் போன்ற மகாராஷ்டிராவின் பிற நகரங்களில் 'G2 லோட்டஸ் மைல்ஸ் லிமிடெட்' என்ற நிறுவனப் பெயரில் தொழிலை வளர்க்க ஆரம்பித்து இன்று இரண்டு ஆண்டுகள் கடந்துவிட்டன. அந்த நிறுவனம் இப்போது 30% எனும் கூடுதலான ஆண்டு விற்பனையோடு வளர்ந்து வருகிறது.

பட்டியல் I ஐ பட்டியல் II உடன் பொருத்துக

பட்டியல் I		பட்டியல் II	
A.	நிகழ்ச்சி மேலான்மை விரிவாக்கம்	I.	மைல்ஸ் லிமிடெட்
B.	புற விரிவாக்கம்	II.	லோட்டஸ் லிமிடெட்
C.	செயலாற்று ஒத்திசைவு	III.	இணைவு
D.	கேட்டரிங் மற்றும் அலங்கார நிறுவனம்	IV.	G ² லோட்டஸ் மைல்ஸ் லிமிடெட்

கீழே தரப்பட்டுள்ள வாய்ப்புகளில் இருந்து சரியான விடையைத் தேர்ந்தெடுக்கவும்:

1. A-I, B-III, C-II, D-IV
2. A-II, B-III, C-IV, D-I
3. A-III, B-II, C-IV, D-I
4. A-IV, B-III, C-II, D-I

Options :

485584134053. 1
485584134054. 2
485584134055. 3
485584134056. 4

Question Number : 100 Question Id : 48558433515 Question Type : MCQ Option Shuffling : No Is Question Mandatory : No Calculator : None Response Time : N.A Think Time : N.A Minimum Instruction Time : 0

Correct Marks : 5 Wrong Marks : 1

Question Key Details :

Key	Value
Comprehension	Comp2

Mergers: Read the case and answer the questions (46-50)

Gaurav owned an event management company called 'Lotus Ltd.' in Mumbai. He used to organise weddings, meetings, conferences, etc. These events were full of activities, music, food and entertainment. He used to outsource decoration material, food as well as entertainment from different vendors.

Ms. Geetika was an owner of catering and decoration company called Miles Ltd. in Mumbai. She used to cater the food and decoration needs of various customers such as corporate as well as family functions.

Gaurav & Geetika were performing well in their respective businesses until covid-19 lockdown was introduced. Due to lack of demand for food, decoration and events, both the companies started facing losses. As the lockdown was lifted, nearly after a year, both Gaurav and Geetika were facing problems in managing their increasing operational costs with lesser number of customers. As they were planning to look for better business opportunity, they got to meet each other at an 'exponential' organised by trades of Mumbai at BKC ground.

In this 'exponential', there were different traders sharing their business ideas with each other. Hence, it was here that Gaurav and Geetika decided to restart their business by merging their operations with a new company name. 'G² Lotus Miles Ltd'. They both shared their contacts of vendors and customers with each other and started getting order for events, food, decoration, entertainment, etc. Their business started blooming as their costs were lesser and more customers with demand of services given by Gaurav and Geetika.

Now its been two years that both of them have grown their business into other cities of Maharashtra like, Pune, Ahmednagar and Nagpur under the company name of 'G² Lotus Miles Ltd'. The company is growing with increased annual sales of 30%.

If Gaurav could raise sufficient funds to acquire 'Miles Ltd'. This acquisition would be called:

1. Friendly Acquisition
2. Reverse Acquisition
3. Back flip Acquisition
4. Hostile Acquisition

Options :

- 485584134057. 1
- 485584134058. 2
- 485584134059. 3
- 485584134060. 4

Question Number : 100 Question Id : 48558433515 Question Type : MCQ Option Shuffling : No Is Question Mandatory : No Calculator : None Response Time : N.A Think Time : N.A Minimum Instruction Time : 0

Correct Marks : 5 Wrong Marks : 1

Question Key Details :

Key	Value
Comprehension	Comp2

இணைவுகள்: நேர்வைப் படித்து (46-50) வினாக்களுக்கு விடையளி:

கௌரவ் என்பவர் மும்பையில் 'லோட்டஸ் லிமிடெட்' என்ற நிகழ்ச்சி மேலாண்மை நிறுவனத்தை சொந்தமாக வைத்திருந்தார். அவர் திருமணங்கள், கூட்டங்கள், கருத்தரங்குகள் போன்றவற்றை நிர்வகிக்க உதவுகின்றார். இந்த நிகழ்ச்சிகள் முழுவதும் நடவடிக்கைகள், இசை, உணவு மற்றும் பொழுதுபோக்கு நடவடிக்கைகள் ஆகியவற்றால் ஆனவை. அவர் அலங்காரப் பொருட்கள், உணவு மற்றும் பொழுதுபோக்கு சாமான்களுக்கு வெளியட்களான பல்வேறு விற்பனையாளரைப் பயன்படுத்துவார்.

மும்பையில், 'மைல்ஸ் லிமிடெட்' எனப்படும் கேட்ரிங் மற்றும் அலங்கார நிறுவனத்தின் உரிமையாளர், செல்வி.கீதிக்கா ஆவார். கார்பரேட்(பெரிய தொழில்) மற்றும் குடும்ப விழாக்கள் போன்ற பலதரப்பட்ட நுகர்வோர்களின் உணவு மற்றும் ஆலங்காரத்திற்கு தேவையானவற்றை வழங்கி உதவுகிறார். COVID-19 லாக் டவுன் அறிமுகப்படுத்தும் வரை, கௌரவ் மற்றும் கீதிக்கா ஆகிய இருவரும் தங்களுக்குரிய வியாபாரத்தை நன்கு நடத்திவந்தனர். உணவு, அலங்கார மற்றும் நிகழ்ச்சிகளுக்கான தேவை இல்லாத நிலையில், இரு நிறுவனங்களும் நஷ்டத்தை பார்க்கத் துவங்கின. ஏறக்குறைய ஓராண்டிற்கு பிறகு, லாக் டவுன் எடுக்கப்பட்டபின், கௌரவ் மற்றும் கீதிக்கா இருவரும் குறைந்த எண்ணிக்கையிலான வாடிக்கையாளர்களோடு அதிகமான செயல்படுத்தும் செலவுகளோடு நிர்வகிப்பதில் பிரச்சனைகளை எதிர் நோக்குகின்றனர். அவர்கள் இதைவிடச் சிறந்த வணிக வாய்ப்பிற்காக பார்க்கத்திட்டமிட்ட நிலையில், மும்பையின் BKC மைதானத்தில், வணிகர்களால் ஒருங்கிணைக்கப்பட்ட "எக்ஸ்போனேன்சியல்" ஒன்றில் இருவரும் ஒருவரையொருவர் சந்தித்து கொள்ள நேரிட்டது.

இந்த எக்ஸ்போனேன்சியல் ஒருவருக்கொருவர் தங்களது வணிக கருத்துக்களை/சிந்தனைகளை பங்கிட்டுக் கொண்டனர். ஆதலால், இங்குதான் கௌரவ் மற்றும் கீதிக்கா தங்களது நடவடிக்கைகளை இணைத்து 'G2 லோட்டஸ் மைல்ஸ் லிமிடெட்' எனும் புதிய நிறுவனப் பெயரில் வணிகம் துவங்குவதற்கு முடிவு செய்தனர். அவர்கள் ஒருவருக்கு ஒருவரை தங்களது விற்பனையாளர்கள் மற்றும் வாடிக்கையாளர்களின் தொடர்புகளை பரிமாறிக் கொண்டனர். மேலும் அதன் மூலம் நிகழ்ச்சிகளுக்கான உணவு, அலங்கார பொழுதுபோக்கு போன்ற ஆர்டர்களை பெறத்துவங்கினர். அவர்களது வியாபாரம் பூத்துக்குலங்கத் துவங்கியது. கௌரவ் மற்றும் கீதிக்கா ஆகியவர்கள் தந்த சேவைகளுக்கான தேவை கொண்ட வாடிக்கையாளர்கள் அதிகமானவர்கள் கிடைத்தாலும் குறைந்த செலவீனத்தில் இது நடந்தது.

அவர்கள் இருவரும் தங்களது வியாபாரத்தை புனே, அஹமதுநகர் மற்றும் நாக்பூர் போன்ற மகாராஷ்டிராவின் பிற நகரங்களில் 'G2 லோட்டஸ் மைல்ஸ் லிமிடெட்' என்ற நிறுவனப் பெயரில் தொழிலை வளர்க்க ஆரம்பித்து இன்று இரண்டு ஆண்டுகள் கடந்துவிட்டன. அந்த நிறுவனம் இப்போது 30% எனும் கூடுதலான ஆண்டு விற்பனையோடு வளர்ந்து வருகிறது.

"மைல்ஸ் லிமிடெட்" நிறுவனத்தை கையகப்படுத்த கௌரவால் போதுமான நிதியை திரட்ட முடிந்திருக்குமானால், இத்தகைய கையகப்படுத்தல் இவ்வாறு அழைக்கப்படும்.

1. தோழமை கையகப்படுத்தல்
2. எதிர்மறையான கையகப்படுத்தல்
3. பின்புரட்டு கையகப்படுத்தல்
4. விரோதமான கையகப்படுத்தல்

Options :

485584134057. 1
485584134058. 2
485584134059. 3
485584134060. 4

Geography

Group Number :	7
Group Id :	485584745
Group Maximum Duration :	45
Group Minimum Duration :	45
Show Attended Group? :	No
Edit Attended Group? :	No
Break time :	0
Group Marks :	200
Is this Group for Examiner? :	No
Examiner permission :	Cant View
Show Progress Bar? :	No

Geography

Section Id :	485584859
Section Number :	1
Section type :	Online
Mandatory or Optional :	Mandatory
Number of Questions :	50
Number of Questions to be attempted :	40
Section Marks :	200
Enable Mark as Answered Mark for Review and Clear Response :	Yes
Maximum Instruction Time :	0
Sub-Section Number :	1
Sub-Section Id :	4855842425
Question Shuffling Allowed :	Yes
Is Section Default? :	null

Question Number : 101 Question Id : 48558433216 Question Type : MCQ Option Shuffling : No Is Question Mandatory : No Calculator : None Response Time : N.A Think Time : N.A Minimum Instruction Time : 0

Correct Marks : 5 Wrong Marks : 1

Question Key Details :

Key	Value
Comprehension	MCQ

"Human Geography is the synthetic study of relationship between human societies and earth's surface" among the following who gave the above definition on Human Geography.

1. Paul Vidal de la Blache
2. Ellen C Semple
3. Ratzel
4. Ralph W. Emerson

Options :

485584132861. 1
485584132862. 2
485584132863. 3
485584132864. 4

Question Number : 102 Question Id : 48558433217 Question Type : MCQ Option Shuffling : No Is Question Mandatory : No Calculator : None Response Time : N.A Think Time : N.A Minimum Instruction Time : 0

Correct Marks : 5 Wrong Marks : 1

Question Key Details :

Key	Value
Comprehension	MCQ

Which one of the following is the name of Ethiopian capital?

1. Al Qahirah
2. Tehran
3. Canberra
4. Addis Ababa

Options :

- 485584132865. 1
- 485584132866. 2
- 485584132867. 3
- 485584132868. 4

Question Number : 103 Question Id : 48558433218 Question Type : MCQ Option Shuffling : No Is Question Mandatory : No Calculator : None Response Time : N.A Think Time : N.A Minimum Instruction Time : 0

Correct Marks : 5 Wrong Marks : 1

Question Key Details :

Key	Value
Comprehension	MCQ

What is the percentage of world population living in urban areas in 2017?

1. 37%
2. 48%
3. 58%
4. 54%

Options :

- 485584132869. 1
- 485584132870. 2
- 485584132871. 3
- 485584132872. 4

Question Number : 104 Question Id : 48558433219 Question Type : MCQ Option Shuffling : No Is Question Mandatory : No Calculator : None Response Time : N.A Think Time : N.A Minimum Instruction Time : 0

Correct Marks : 5 Wrong Marks : 1

Question Key Details :

Key	Value
Comprehension	MCQ

Which one of the following is not the approach of human Geography?

1. Regional Analysis
2. Areal Differentiation
3. Technological Analysis
4. Post-Modernism

Options :

485584132873. 1
485584132874. 2
485584132875. 3
485584132876. 4

Question Number : 105 Question Id : 48558433220 Question Type : MCQ Option Shuffling : No Is Question Mandatory : No Calculator : None Response Time : N.A Think Time : N.A Minimum Instruction Time : 0

Correct Marks : 5 Wrong Marks : 1

Question Key Details :

Key	Value
Comprehension	MCQ

Who introduced stop and go determinism?

1. Ratzal
2. Ellian sample
3. Griffith Taylor
4. Paul Vidal de la Blache

Options :

485584132877. 1
485584132878. 2
485584132879. 3
485584132880. 4

Question Number : 106 Question Id : 48558433221 Question Type : MCQ Option Shuffling : No Is Question Mandatory : No Calculator : None Response Time : N.A Think Time : N.A Minimum Instruction Time : 0

Correct Marks : 5 Wrong Marks : 1

Question Key Details :

Key	Value
Comprehension	MCQ

"This happens when the birth rate is more than the death rate between two points of time" choose the right from the following.

1. Stationary Population
2. Actual Growth of Population
3. Negative Growth of Population
4. Positive Growth of Population

Options :

- 485584132881. 1
- 485584132882. 2
- 485584132883. 3
- 485584132884. 4

Question Number : 107 Question Id : 48558433222 Question Type : MCQ Option Shuffling : No Is Question Mandatory : No Calculator : None Response Time : N.A Think Time : N.A Minimum Instruction Time : 0

Correct Marks : 5 Wrong Marks : 1

Question Key Details :

Key	Value
Comprehension	MCQ

The 'Alaskan Highway' links which of the following?

1. British Colombia to St. John city
2. Edmonton to Anchorage
3. Darwin to Malborne
4. Algiers to Conakry

Options :

- 485584132885. 1
- 485584132886. 2
- 485584132887. 3
- 485584132888. 4

Question Number : 108 Question Id : 48558433223 Question Type : MCQ Option Shuffling : No Is Question Mandatory : No Calculator : None Response Time : N.A Think Time : N.A Minimum Instruction Time : 0

Correct Marks : 5 Wrong Marks : 1

Question Key Details :

Key	Value
Comprehension	MCQ

When and by whom Human development index was created?

1. Prof A. Shaws (1991)
2. Prof Amartya Sen, 1990
3. Dr. Mahbub-Ul-Haq, 1990
4. Prof Amartya Sen 1991

Options :

- 485584132889. 1
- 485584132890. 2
- 485584132891. 3
- 485584132892. 4

Question Number : 109 Question Id : 48558433224 Question Type : MCQ Option Shuffling : No Is Question Mandatory : No Calculator : None Response Time : N.A Think Time : N.A Minimum Instruction Time : 0

Correct Marks : 5 Wrong Marks : 1

Question Key Details :

Key	Value
Comprehension	MCQ

Famous pipeline 'Big Inch' is located in _____.

1. Saudi Arabia
2. Qutar
3. USA
4. Venezuela

Options :

- 485584132893. 1
- 485584132894. 2
- 485584132895. 3
- 485584132896. 4

Question Number : 110 Question Id : 48558433225 Question Type : MCQ Option Shuffling : No Is Question Mandatory : No Calculator : None Response Time : N.A Think Time : N.A Minimum Instruction Time : 0

Correct Marks : 5 Wrong Marks : 1

Question Key Details :

Key	Value
Comprehension	MCQ

How many of the following cities in world have attained the million status at the beginning of 2005.

1. 206
2. 437
3. 469
4. 438

Options :

- 485584132897. 1
- 485584132898. 2
- 485584132899. 3
- 485584132900. 4

Question Number : 111 Question Id : 48558433226 Question Type : MCQ Option Shuffling : No Is Question Mandatory : No Calculator : None Response Time : N.A Think Time : N.A Minimum Instruction Time : 0

Correct Marks : 5 Wrong Marks : 1

Question Key Details :

Key	Value
Comprehension	MCQ

Which among the following is not a factor that discourage women to migrate from rural to urban areas?

1. Shortage of housing
2. Paucity of job opportunities
3. Low cost of living
4. Lack of security in cities

Options :

- 485584132901. 1
- 485584132902. 2
- 485584132903. 3
- 485584132904. 4

Question Number : 112 Question Id : 48558433227 Question Type : MCQ Option Shuffling : No Is Question Mandatory : No Calculator : None Response Time : N.A Think Time : N.A Minimum Instruction Time : 0

Correct Marks : 5 Wrong Marks : 1

Question Key Details :

Key	Value
Comprehension	MCQ

In the Age sex pyramid a narrow base and a tapered top represents which of the following?

1. Declining Population Pyramid
2. Constant Population Pyramid
3. Expanding Population Pyramid
4. Triangular Shaped Pyramid

Options :

- 485584132905. 1
- 485584132906. 2
- 485584132907. 3
- 485584132908. 4

Question Number : 113 Question Id : 48558433228 Question Type : MCQ Option Shuffling : No Is Question Mandatory : No Calculator : None Response Time : N.A Think Time : N.A Minimum Instruction Time : 0

Correct Marks : 5 Wrong Marks : 1

Question Key Details :

Key	Value
Comprehension	MCQ

Which one of the following states of India has the highest female literacy?

1. Tamil Nadu
2. Punjab
3. Haryana
4. Kerala

Options :

- 485584132909. 1
- 485584132910. 2
- 485584132911. 3
- 485584132912. 4

Question Number : 114 Question Id : 48558433229 Question Type : MCQ Option Shuffling : No Is Question Mandatory : No Calculator : None Response Time : N.A Think Time : N.A Minimum Instruction Time : 0

Correct Marks : 5 Wrong Marks : 1

Question Key Details :

Key	Value
Comprehension	MCQ

The first complete census was conducted in India in which year ?

1. 1861
2. 1871
3. 1881
4. 1891

Options :

485584132913. 1
485584132914. 2
485584132915. 3
485584132916. 4

Question Number : 115 Question Id : 48558433230 Question Type : MCQ Option Shuffling : No Is Question Mandatory : No Calculator : None Response Time : N.A Think Time : N.A Minimum Instruction Time : 0

Correct Marks : 5 Wrong Marks : 1

Question Key Details :

Key	Value
Comprehension	MCQ

How many Railway Zones are there in India?

1. 12
2. 14
3. 15
4. 16

Options :

485584132917. 1
485584132918. 2
485584132919. 3
485584132920. 4

Question Number : 116 Question Id : 48558433231 Question Type : MCQ Option Shuffling : No Is Question Mandatory : No Calculator : None Response Time : N.A Think Time : N.A Minimum Instruction Time : 0

Correct Marks : 5 Wrong Marks : 1

Question Key Details :

Key	Value
Comprehension	MCQ

According to Grierson (Linguistic Survey of India 1903-1928) how many languages were there in India?

1. 544
2. 22
3. 179
4. 267

Options :

- 485584132921. 1
- 485584132922. 2
- 485584132923. 3
- 485584132924. 4

Question Number : 117 Question Id : 48558433232 Question Type : MCQ Option Shuffling : No Is Question Mandatory : No Calculator : None Response Time : N.A Think Time : N.A Minimum Instruction Time : 0

Correct Marks : 5 Wrong Marks : 1

Question Key Details :

Key	Value
Comprehension	MCQ

Which phase is referred to as the period of population explosion in India?

1. Phase I (1901-1921)
2. Phase II (1921-1951)
3. Phase III (1951-1981)
4. Phase IV (Post 1981 till present)

Options :

- 485584132925. 1
- 485584132926. 2
- 485584132927. 3
- 485584132928. 4

Question Number : 118 Question Id : 48558433233 Question Type : MCQ Option Shuffling : No Is Question Mandatory : No Calculator : None Response Time : N.A Think Time : N.A Minimum Instruction Time : 0

Correct Marks : 5 Wrong Marks : 1

Question Key Details :

Key	Value
Comprehension	MCQ

Which one of the following town / cities has not been developed as an administrative headquarters after Independence?

1. Jamshedpur
2. Chandigarh
3. Gandhinagar
4. Dispur

Options :

485584132929. 1
485584132930. 2
485584132931. 3
485584132932. 4

Question Number : 119 Question Id : 48558433234 Question Type : MCQ Option Shuffling : No Is Question Mandatory : No Calculator : None Response Time : N.A Think Time : N.A Minimum Instruction Time : 0

Correct Marks : 5 Wrong Marks : 1

Question Key Details :

Key	Value
Comprehension	MCQ

The famous Nehru Trophy Boat Race (Vallamkali) is held in the backwater of which of the following?

1. Andhra Pradesh
2. Goa
3. Karnataka
4. Kerala

Options :

485584132933. 1
485584132934. 2
485584132935. 3
485584132936. 4

Question Number : 120 Question Id : 48558433235 Question Type : MCQ Option Shuffling : No Is Question Mandatory : No Calculator : None Response Time : N.A Think Time : N.A Minimum Instruction Time : 0

Correct Marks : 5 Wrong Marks : 1

Question Key Details :

Key	Value
Comprehension	MCQ

Which one among the following classes comprises the maximum number of town / cities in India as per Census of India 2011?

1. Class II
2. Class III
3. Class IV
4. Class V

Options :

485584132937. 1
485584132938. 2
485584132939. 3
485584132940. 4

Question Number : 121 Question Id : 48558433236 Question Type : MCQ Option Shuffling : No Is Question Mandatory : No Calculator : None Response Time : N.A Think Time : N.A Minimum Instruction Time : 0

Correct Marks : 5 Wrong Marks : 1

Question Key Details :

Key	Value
Comprehension	MCQ

Which one of the following is an example of Ancient Town in India?

1. Prayag
2. Hyderabad
3. Delhi
4. Mumbai

Options :

485584132941. 1
485584132942. 2
485584132943. 3
485584132944. 4

Question Number : 122 Question Id : 48558433237 Question Type : MCQ Option Shuffling : No Is Question Mandatory : No Calculator : None Response Time : N.A Think Time : N.A Minimum Instruction Time : 0

Correct Marks : 5 Wrong Marks : 1

Question Key Details :

Key	Value
Comprehension	MCQ

Which of the following Indian state has the highest density of population?

1. Bihar
2. Kerala
3. Uttar Pradesh
4. West Bengal

Options :

485584132945. 1
485584132946. 2
485584132947. 3
485584132948. 4

Question Number : 123 Question Id : 48558433238 Question Type : MCQ Option Shuffling : No Is Question Mandatory : No Calculator : None Response Time : N.A Think Time : N.A Minimum Instruction Time : 0

Correct Marks : 5 Wrong Marks : 1

Question Key Details :

Key	Value
Comprehension	MCQ

The Ocean noise levels in 2003-04 were about _____ higher than in 1964-1966.

1. 20 decibels
2. 10-12 decibels
3. 5 decibels
4. 15-18 decibels

Options :

485584132949. 1
485584132950. 2
485584132951. 3
485584132952. 4

Question Number : 124 Question Id : 48558433239 Question Type : MCQ Option Shuffling : No Is Question Mandatory : No Calculator : None Response Time : N.A Think Time : N.A Minimum Instruction Time : 0

Correct Marks : 5 Wrong Marks : 1

Question Key Details :

Key	Value
Comprehension	MCQ

Which one of the following contributes to the maximum length of the roads in India?

1. National Highway
2. State Highway
3. Districts Roads
4. Rural Roads

Options :

485584132953. 1
485584132954. 2
485584132955. 3
485584132956. 4

Question Number : 125 Question Id : 48558433240 Question Type : MCQ Option Shuffling : No Is Question Mandatory : No Calculator : None Response Time : N.A Think Time : N.A Minimum Instruction Time : 0

Correct Marks : 5 Wrong Marks : 1

Question Key Details :

Key	Value
Comprehension	MCQ

Which one of the following is an Inland Port?

1. Kochhi Port
2. Ennore Port
3. Kolkata Port
4. Haldia Port

Options :

485584132957. 1
485584132958. 2
485584132959. 3
485584132960. 4

Question Number : 126 Question Id : 48558433241 Question Type : MCQ Option Shuffling : No Is Question Mandatory : No Calculator : None Response Time : N.A Think Time : N.A Minimum Instruction Time : 0

Correct Marks : 5 Wrong Marks : 1

Question Key Details :

Key	Value
Comprehension	MCQ

Arrange the following approaches in the order?

- A. Spatial organization
- B. Exploration and description
- C. Post modernism in geography
- D. Regional Analysis

Choose the correct answer from the options given below:

1. A, C, B, D
2. B, D, A, C
3. C, D, B, A
4. D, A, C, B

Options :

- 485584132961. 1
- 485584132962. 2
- 485584132963. 3
- 485584132964. 4

Question Number : 127 Question Id : 48558433242 Question Type : MCQ Option Shuffling : No Is Question Mandatory : No Calculator : None Response Time : N.A Think Time : N.A Minimum Instruction Time : 0

Correct Marks : 5 Wrong Marks : 1

Question Key Details :

Key	Value
Comprehension	MCQ

Arrange the following continents in descending order of population density

- A. North America
- B. Africa
- C. Oceania
- D. Asia

Choose the correct answer from the options given below:

1. D, B, A, C
2. D, C, B, A
3. D, A, B, C
4. D, A, C, B

Options :

- 485584132965. 1
- 485584132966. 2
- 485584132967. 3
- 485584132968. 4

Question Number : 128 Question Id : 48558433243 Question Type : MCQ Option Shuffling : No Is Question Mandatory : No Calculator : None Response Time : N.A Think Time : N.A Minimum Instruction Time : 0

Correct Marks : 5 Wrong Marks : 1

Question Key Details :

Key	Value
Comprehension	MCQ

Arrange the below mentioned Urban classification in correct sequence (small to large).

- A. City
- B. Conurbation
- C. Megalopolis
- D. Million City

Choose the correct answer from the options given below:

- 1. A, B, C, D
- 2. A, D, B, C
- 3. A, C, B, D
- 4. C, B, D, A

Options :

- 485584132969. 1
- 485584132970. 2
- 485584132971. 3
- 485584132972. 4

Question Number : 129 Question Id : 48558433244 Question Type : MCQ Option Shuffling : No Is Question Mandatory : No Calculator : None Response Time : N.A Think Time : N.A Minimum Instruction Time : 0

Correct Marks : 5 Wrong Marks : 1

Question Key Details :

Key	Value
Comprehension	MCQ

Arrange the below mentioned technology phases with population growth periods in correct order from birth of Christ to Present.

- A. Biotechnology
- B. Age of European exploration and colonization
- C. Information and computers
- D. Transportation development

Choose the correct answer from the options given below:

- 1. B, D, A, C
- 2. B, D, C, A
- 3. B, C, D, A
- 4. B, A, D, C

Options :

- 485584132973. 1
- 485584132974. 2
- 485584132975. 3
- 485584132976. 4

Question Number : 130 Question Id : 48558433245 Question Type : MCQ Option Shuffling : No Is Question Mandatory : No Calculator : None Response Time : N.A Think Time : N.A Minimum Instruction Time : 0

Correct Marks : 5 Wrong Marks : 1

Question Key Details :

Key	Value
Comprehension	MCQ

Arrange the following airports of India from east to west.

- A. Shillong
- B. Allahabad
- C. Udaipur
- D. Patna

Choose the correct answer from the options given below:

- 1. A, D, B, C
- 2. A, D, C, B
- 3. D, A, C, B
- 4. D, A, B, C

Options :

- 485584132977. 1
- 485584132978. 2
- 485584132979. 3
- 485584132980. 4

Question Number : 131 Question Id : 48558433246 Question Type : MCQ Option Shuffling : No Is Question Mandatory : No Calculator : None Response Time : N.A Think Time : N.A Minimum Instruction Time : 0

Correct Marks : 5 Wrong Marks : 1

Question Key Details :

Key	Value
Comprehension	MCQ

Choose indicators used to assess Human Development Index from below.

- A. Purchasing Power
- B. Happiness
- C. Life expectancy at Birth
- D. Gross Enrollment Ratio

Choose the correct answer from the options given below:

1. A, B, D only
2. A, C, D only
3. B, C, D only
4. B, A, C only

Options :

- 485584132981. 1
- 485584132982. 2
- 485584132983. 3
- 485584132984. 4

Question Number : 132 Question Id : 48558433247 Question Type : MCQ Option Shuffling : No Is Question Mandatory : No Calculator : None Response Time : N.A Think Time : N.A Minimum Instruction Time : 0

Correct Marks : 5 Wrong Marks : 1

Question Key Details :

Key	Value
Comprehension	MCQ

Major areas of rice production are:

- A. Bihar
- B. Karnataka
- C. West Bengal
- D. Chhattisgarh

Choose the correct answer from the options given below:

1. A, B and D only
2. B, C and D only
3. A, C and D only
4. A, B and C only

Options :

- 485584132985. 1
- 485584132986. 2
- 485584132987. 3
- 485584132988. 4

Question Number : 133 Question Id : 48558433248 Question Type : MCQ Option Shuffling : No Is Question Mandatory : No Calculator : None Response Time : N.A Think Time : N.A Minimum Instruction Time : 0

Correct Marks : 5 Wrong Marks : 1

Question Key Details :

Key	Value
Comprehension	MCQ

Read the following about Indira Gandhi Canal Command Area carefully.

- A. Indira Gandhi Canal was previously known as the Rajasthan Canal.
- B. The Canal Project was launched on 31 March ,1948.
- C. The Canal originates at Herike barrage in Punjab.
- D. They command area of stage-I lies in Ganganagar, Hanumangarh and northern part of Bikaner districts.

Choose the correct answer from the options given below:

- 1. A, B and C only
- 2. A, B and D only
- 3. A, C and D only
- 4. B, C and D only

Options :

- 485584132989. 1
- 485584132990. 2
- 485584132991. 3
- 485584132992. 4

Question Number : 134 Question Id : 48558433249 Question Type : MCQ Option Shuffling : No Is Question Mandatory : No Calculator : None Response Time : N.A Think Time : N.A Minimum Instruction Time : 0

Correct Marks : 5 Wrong Marks : 1

Question Key Details :

Key	Value
Comprehension	MCQ

Read the following statements about the North Western region of India carefully.

- A. Rajasthan is rich in building stones i.e. sandstone, granite, marble.
- B. Gujarat does not have petroleum deposits.
- C. Gujarat and Rajasthan both have rich source of salt
- D. This region provide raw material for Cement Industry

Choose the correct answer from the options given below:

- 1. A, B and C only
- 2. A, B and D only
- 3. A, C and D only
- 4. B, C and D only

Options :

485584132993. 1
485584132994. 2
485584132995. 3
485584132996. 4

Question Number : 135 Question Id : 48558433250 Question Type : MCQ Option Shuffling : No Is Question Mandatory : No Calculator : None Response Time : N.A Think Time : N.A Minimum Instruction Time : 0

Correct Marks : 5 Wrong Marks : 1

Question Key Details :

Key	Value
Comprehension	MCQ

Which are the characteristics of Mechanised grain farming?

- A. It is practised in the semi-arid land of mid-latitudes.
- B. The size of the farm is too large.
- C. Variety of crops are grown with livestock.
- D. Entire operations of cultivation are mechanised.

Choose the correct answer from the options given below:

- 1. B, C and D only
- 2. A, B and D only
- 3. A, C and D only
- 4. A, B and C only

Options :

485584132997. 1
485584132998. 2
485584132999. 3
485584133000. 4

Question Number : 136 Question Id : 48558433251 Question Type : MCQ Option Shuffling : No Is Question Mandatory : No Calculator : None Response Time : N.A Think Time : N.A Minimum Instruction Time : 0

Correct Marks : 5 Wrong Marks : 1

Question Key Details :

Key	Value
Comprehension	MCQ

Match List I with List II

LIST I (Country)		LIST II (Mega city)	
A.	Peru	I.	Jakarta
B.	Indonesia	II.	Manila
C.	Brazil	III.	Lima
D.	Philippines	IV.	Sao Paulo

Choose the correct answer from the options given below:

1. A-III, B-II, C-II, D-IV
2. A-III, B-I, C-IV, D-II
3. A-IV, B-II, C-I, D-III
4. A-IV, B-III, C-II, D-I

Options :

485584133001. 1
485584133002. 2
485584133003. 3
485584133004. 4

Question Number : 137 Question Id : 48558433252 Question Type : MCQ Option Shuffling : No Is Question Mandatory : No Calculator : None Response Time : N.A Think Time : N.A Minimum Instruction Time : 0

Correct Marks : 5 Wrong Marks : 1

Question Key Details :

Key	Value
Comprehension	MCQ

Match List I with List II

LIST I Pollution		LIST II Sources of pollution	
A.	Air pollution	I.	Urban run-off
B.	Water pollution	II.	Advertising media
C.	Land pollution	III.	Combustion of biofuels
D.	Noise pollution	IV.	Improper human activities

Choose the correct answer from the options given below:

1. A-IV, B-I, C-II, D-III
2. A-IV, B-II, C-III, D-I
3. A-III, B-I, C-IV, D-II
4. A-III, B-II, C-I, D-IV

Options :

485584133005. 1
485584133006. 2
485584133007. 3
485584133008. 4

Question Number : 138 Question Id : 48558433253 Question Type : MCQ Option Shuffling : No Is Question Mandatory : No Calculator : None Response Time : N.A Think Time : N.A Minimum Instruction Time : 0

Correct Marks : 5 Wrong Marks : 1

Question Key Details :

Key	Value
Comprehension	MCQ

Match List I with List II

LIST I States		LIST II Ports	
A.	Gujarat	I.	Mangaluru
B.	Maharashtra	II.	Kandla
C.	Karnataka	III.	Kochchi
D.	Kerala	IV.	Jawaharlal Nehru Port

Choose the correct answer from the options given below:

1. A-II, B-I, C-III, D-IV
2. A-II, B-IV, C-I, D-III
3. A-II, B-IV, C-III, D-I
4. A-IV, B-II, C-I, D-III

Options :

- 485584133009. 1
- 485584133010. 2
- 485584133011. 3
- 485584133012. 4

Question Number : 139 Question Id : 48558433254 Question Type : MCQ Option Shuffling : No Is Question Mandatory : No Calculator : None Response Time : N.A Think Time : N.A Minimum Instruction Time : 0

Correct Marks : 5 Wrong Marks : 1

Question Key Details :

Key	Value
Comprehension	MCQ

Match List I with List II

LIST I (Mining area)		LIST II (State)	
A.	kendujhar	I.	Maharashtra
B.	Ratnagiri	II.	Madhya Pradesh
C.	katni	III.	Rajasthan
D.	khetri	IV.	Odisha

Choose the correct answer from the options given below:

1. A-II, B-I, C-IV, D-III
2. A-IV, B-I, C-II, D-III
3. A-IV, B-II, C-III, D-I
4. A-II, B-III, C-IV, D-I

Options :

485584133013. 1
485584133014. 2
485584133015. 3
485584133016. 4

Question Number : 140 Question Id : 48558433255 Question Type : MCQ Option Shuffling : No Is Question Mandatory : No Calculator : None Response Time : N.A Think Time : N.A Minimum Instruction Time : 0

Correct Marks : 5 Wrong Marks : 1

Question Key Details :

Key	Value
Comprehension	MCQ

Match List I with List II

LIST I Specialised functions		LIST II Port	
A.	Ports of Call	I.	Copenhagen
B.	Packet Station	II.	Kochi
C.	Entrepot Ports	III.	Aden
D.	Navel Ports	IV.	Dover

Choose the correct answer from the options given below:

1. A-III, B-IV, C-I, D-II
2. A-II, B-III, C-IV, D-I
3. A-I, B-II, C-III, D-IV
4. A-IV, B-I, C-II, D-III

Options :

485584133017. 1

485584133018. 2
485584133019. 3
485584133020. 4

Sub-Section Number : 2
Sub-Section Id : 4855842426
Question Shuffling Allowed : No
Is Section Default? : null

Question Number : 141 Question Id : 48558433256 Question Type : MCQ Option Shuffling : No Is Question Mandatory : No Calculator : None Response Time : N.A Think Time : N.A Minimum Instruction Time : 0

Correct Marks : 5 Wrong Marks : 1

Question Key Details :

Key	Value
Comprehension	Comp1

Read the passage and answer 5 questions that follow:

High technology, or simply high-tech, is the latest generation of manufacturing activities. It is best understood as the application of intensive research and development (R and D) efforts leading to the manufacture of products of an advanced scientific and engineering character. Professional (white collar) workers make up a large share of the total workforce. These highly skilled specialists greatly outnumber the actual production (blue collar) workers. Robotics on the assembly line, computer-aided design (CAD) and manufacturing, electronic controls of smelting and refining processes, and the constant development of new chemical and pharmaceutical products are notable examples of a high-tech industry.

Neatly spaced, low, modern, dispersed, office-plant-lab buildings rather than massive assembly structures, factories and storage areas mark the-tech industrial landscape. Planned business parks for high-tech start-ups have become part of regional and local development schemes.

High-tech industries which are regionally concentrated, self-sustained and highly specialised are called technopolies. The Silicon Valley near San Francisco and Silicon Forest near Seattle are examples of technopolies.

Manufacturing contributes significantly to the world economy. Iron and steel, textiles, automobiles, petrochemicals and electronics are some of the world's most important manufacturing industries.

Which one of the following is not true about High-Tech industry?

1. High-Tech is latest manufacturing Industry
2. It is intensive research and development unit
3. It is traditionally located close to the raw materials
4. Absence of massive statements, factories, storage etc.

Options :

485584133021. 1
485584133022. 2
485584133023. 3
485584133024. 4

Question Number : 142 Question Id : 48558433257 Question Type : MCQ Option Shuffling : No Is Question Mandatory : No Calculator : None Response Time : N.A Think Time : N.A Minimum Instruction Time : 0

Correct Marks : 5 Wrong Marks : 1

Question Key Details :

Key	Value
Comprehension	Comp1

Read the passage and answer 5 questions that follow:

High technology, or simply high-tech, is the latest generation of manufacturing activities. It is best understood as the application of intensive research and development (R and D) efforts leading to the manufacture of products of an advanced scientific and engineering character. Professional (white collar) workers make up a large share of the total workforce. These highly skilled specialists greatly outnumber the actual production (blue collar) workers. Robotics on the assembly line, computer-aided design (CAD) and manufacturing, electronic controls of smelting and refining processes, and the constant development of new chemical and pharmaceutical products are notable examples of a high-tech industry.

Neatly spaced, low, modern, dispersed, office-plant-lab buildings rather than massive assembly structures, factories and storage areas mark the-tech industrial landscape. Planned business parks for high-tech start-ups have become part of regional and local development schemes.

High-tech industries which are regionally centred, self-sustained and highly specialised are called technopolies. The Silicon Valley near San Francisco and Silicon Forest near Seattle are examples of technopolies.

Manufacturing contributes significantly to the world economy. Iron and steel, textiles, automobiles, petrochemicals and electronics are some of the world's most important manufacturing industries.

Which one of the following are considered white collar workers?

1. Skilled specialist
2. Engineers
3. Farmers
4. Skilled workers

Options :

485584133025. 1
 485584133026. 2
 485584133027. 3
 485584133028. 4

Question Number : 143 Question Id : 48558433258 Question Type : MCQ Option Shuffling : No Is Question Mandatory : No Calculator : None Response Time : N.A Think Time : N.A Minimum Instruction Time : 0

Correct Marks : 5 Wrong Marks : 1

Question Key Details :

Key	Value
Comprehension	Comp1

Read the passage and answer 5 questions that follow:

High technology, or simply high-tech, is the latest generation of manufacturing activities. It is best understood as the application of intensive research and development (R and D) efforts leading to the manufacture of products of an advanced scientific and engineering character. Professional (white collar) workers make up a large share of the total workforce. These highly skilled specialists greatly outnumber the actual production (blue collar) workers. Robotics on the assembly line, computer-aided design (CAD) and manufacturing, electronic controls of smelting and refining processes, and the constant development of new chemical and pharmaceutical products are notable examples of a high-tech industry.

Neatly spaced, low, modern, dispersed, office-plant-lab buildings rather than massive assembly structures, factories and storage areas mark the-tech industrial landscape. Planned business parks for high-tech start-ups have become part of regional and local development schemes.

High-tech industries which are regionally concentrated, self-sustained and highly specialised are called technopolies. The Silicon Valley near San Francisco and Silicon Forest near Seattle are examples of technopolies.

Manufacturing contributes significantly to the world economy. Iron and steel, textiles, automobiles, petrochemicals and electronics are some of the world's most important manufacturing industries.

Which of the following are an example of high-technology industry?

1. Textile production
2. Robotics
3. CAD
4. Pharmaceutical

Options :

- 485584133029. 1
- 485584133030. 2
- 485584133031. 3
- 485584133032. 4

Question Number : 144 Question Id : 48558433259 Question Type : MCQ Option Shuffling : No Is Question Mandatory : No Calculator : None Response Time : N.A Think Time : N.A Minimum Instruction Time : 0

Correct Marks : 5 Wrong Marks : 1

Question Key Details :

Key	Value
Comprehension	Comp1

Read the passage and answer 5 questions that follow:

High technology, or simply high-tech, is the latest generation of manufacturing activities. It is best understood as the application of intensive research and development (R and D) efforts leading to the manufacture of products of an advanced scientific and engineering character. Professional (white collar) workers make up a large share of the total workforce. These highly skilled specialists greatly outnumber the actual production (blue collar) workers. Robotics on the assembly line, computer-aided design (CAD) and manufacturing, electronic controls of smelting and refining processes, and the constant development of new chemical and pharmaceutical products are notable examples of a high-tech industry.

Neatly spaced, low, modern, dispersed, office-plant-lab buildings rather than massive assembly structures, factories and storage areas mark the-tech industrial landscape. Planned business parks for high-tech start-ups have become part of regional and local development schemes.

High-tech industries which are regionally concentrated, self-sustained and highly specialised are called technopolies. The Silicon Valley near San Francisco and Silicon Forest near Seattle are examples of technopolies.

Manufacturing contributes significantly to the world economy. Iron and steel, textiles, automobiles, petrochemicals and electronics are some of the world's most important manufacturing industries.

Which of the following term is used for the usually concentrated, self-sustained and specialised industry?

1. Iron & steel Industry
2. Textile industry
3. Automobile industry
4. Technopolies

Options :

- 485584133033. 1
- 485584133034. 2
- 485584133035. 3
- 485584133036. 4

Question Number : 145 Question Id : 48558433260 Question Type : MCQ Option Shuffling : No Is Question Mandatory : No Calculator : None Response Time : N.A Think Time : N.A Minimum Instruction Time : 0

Correct Marks : 5 Wrong Marks : 1

Question Key Details :

Key	Value
Comprehension	Comp1

Read the passage and answer 5 questions that follow:

High technology, or simply high-tech, is the latest generation of manufacturing activities. It is best understood as the application of intensive research and development (R and D) efforts leading to the manufacture of products of an advanced scientific and engineering character. Professional (white collar) workers make up a large share of the total workforce. These highly skilled specialists greatly outnumber the actual production (blue collar) workers. Robotics on the assembly line, computer-aided design (CAD) and manufacturing, electronic controls of smelting and refining processes, and the constant development of new chemical and pharmaceutical products are notable examples of a high-tech industry.

Neatly spaced, low, modern, dispersed, office-plant-lab buildings rather than massive assembly structures, factories and storage areas mark the-tech industrial landscape. Planned business parks for high-tech start-ups have become part of regional and local development schemes.

High-tech industries which are regionally concentrated, self-sustained and highly specialised are called technopolies. The Silicon Valley near San Francisco and Silicon Forest near Seattle are examples of techonopolies.

Manufacturing contributes significantly to the world economy. Iron and steel, textiles, automobiles, petrochemicals and electronics are some of the world's most important manufacturing industries.

Which of the following workers are greatly affected by High-Tech Industry?

1. White collar workers
2. Blue collar workers
3. Red collar workers
4. Grey collar workers

Options :

- 485584133037. 1
- 485584133038. 2
- 485584133039. 3
- 485584133040. 4

Sub-Section Number : 3
Sub-Section Id : 4855842427
Question Shuffling Allowed : No
Is Section Default? : null

Question Number : 146 **Question Id :** 48558433261 **Question Type :** MCQ **Option Shuffling :** No **Is Question Mandatory :** No **Calculator :** None **Response Time :** N.A **Think Time :** N.A **Minimum Instruction Time :** 0

Correct Marks : 5 **Wrong Marks :** 1

Question Key Details :

Key	Value
Comprehension	Comp2

Read the passage and answer 5 questions that follow:

Watershed management basically refers to efficient management and conservation of surface and groundwater resources. It involves prevention of runoff and shortage and recharge of groundwater through various methods like percolation tanks. Recharge wells. Etc. however. In broad sense watershed management includes conservation. Regeneration and judicious use of all resources- natural (like land water plants and animals) and human with in a watershed. Watershed management aims at bringing about balance between natural resources on the one hand and society on the other. The success of watershed development largely depends upon community participation.

The Central and State Government have initiated many watershed development and management programmes in the country. some of these are being implemented by non-government organisations also. Haryali is a watershed development project sponsored by the Central Government which aims at enabling the rural populations to conserve water for drinking, irrigation, fisheries and afforestation. The Project is being executed by Gram Panchayats with people's participation. Neeru-Meeru (water and you) programme (in Andhra Pradesh) and Arvary Pani Sansad (in Alwar Rajasthan) have taken up constructions of various water-harvesting structures such as percolation tanks. Dug out ponds (Johand). Check dams. etc... through people's participation. Tamil Nadu has made water harvesting structures in the houses compulsory. No building can be constructed without making structures for water harvesting.

watershed development projects in some areas have been successful in rejuvenating environment and economy. However. There are only a few success stories. In majority of cases. The programme is still in its nascent stage. There is a need to generate awareness regarding benefits of watershed development and management among people in the country, and through this integrated water resource management approach water availability can be ensured on sustainable basis.

What is watershed?

1. It is efficient management and conservation of surface and groundwater resources.
2. It is a system of equitable distribution of water in an area.
3. It is a method of storing the canal water.
4. It is harvesting of natural streams.

Options :

485584133041. 1

485584133042. 2

485584133043. 3

485584133044. 4

Question Number : 147 Question Id : 48558433262 Question Type : MCQ Option Shuffling : No Is Question Mandatory : No Calculator : None Response Time : N.A Think Time : N.A Minimum Instruction Time : 0

Correct Marks : 5 Wrong Marks : 1

Question Key Details :

Key	Value
Comprehension	Comp2

Read the passage and answer 5 questions that follow:

Watershed management basically refers to efficient management and conservation of surface and groundwater resources. It involves prevention of runoff and shortage and recharge of groundwater through various methods like percolation tanks. Recharge wells. Etc. however. In broad sense watershed management includes conservation. Regeneration and judicious use of all resources- natural (like land water plants and animals) and human with in a watershed. Watershed management aims at bringing about balance between natural resources on the one hand and society on the other. The success of watershed development largely depends upon community participation.

The Central and State Government have initiated many watershed development and management programmes in the country. some of these are being implemented by non-government organisations also. Haryali is a watershed development project sponsored by the Central Government which aims at enabling the rural populations to conserve water for drinking, irrigation, fisheries and afforestation. The Project is being executed by Gram Panchayats with people's participation. Neeru-Meeru (water and you) programme (in Andhra Pradesh) and Arvary Pani Sansad (in Alwar Rajasthan) have taken up constructions of various water-harvesting structures such as percolation tanks. Dug out ponds (Johand). Check dams. etc... through people's participation. Tamil Nadu has made water harvesting structures in the houses compulsory. No building can be constructed without making structures for water harvesting.

watershed development projects in some areas have been successful in rejuvenating environment and economy. However. There are only a few success stories. In majority of cases. The programme is still in its nascent stage. There is a need to generate awareness regarding benefits of watershed development and management among people in the country, and through this integrated water resource management approach water availability can be ensured on sustainable basis.

Out of which one is the success story of watershed management in India?

1. Ahmednagar, Maharashtra
2. Gandhi Nagar, Gujarat
3. Alwar, Rajasthan
4. Andhra Pradesh

Options :

485584133045. 1
485584133046. 2
485584133047. 3
485584133048. 4

Question Number : 148 Question Id : 48558433263 Question Type : MCQ Option Shuffling : No Is Question Mandatory : No Calculator : None Response Time : N.A Think Time : N.A Minimum Instruction Time : 0

Correct Marks : 5 Wrong Marks : 1

Question Key Details :

Key	Value
Comprehension	Comp2

Read the passage and answer 5 questions that follow:

Watershed management basically refers to efficient management and conservation of surface and groundwater resources. It involves prevention of runoff and shortage and recharge of groundwater through various methods like percolation tanks. Recharge wells. Etc. however. In broad sense watershed management includes conservation. Regeneration and judicious use of all resources- natural (like land water plants and animals) and human with in a watershed. Watershed management aims at bringing about balance between natural resources on the one hand and society on the other. The success of watershed development largely depends upon community participation.

The Central and State Government have initiated many watershed development and management programmes in the country. some of these are being implemented by non-government organisations also. Haryali is a watershed development project sponsored by the Central Government which aims at enabling the rural populations to conserve water for drinking, irrigation, fisheries and afforestation. The Project is being executed by Gram Panchayats with people's participation. Neeru-Meeru (water and you) programme (in Andhra Pradesh) and Arvary Pani Sansad (in Alwar Rajasthan) have taken up constructions of various water-harvesting structures such as percolation tanks. Dug out ponds (Johand). Check dams. etc... through people's participation. Tamil Nadu has made water harvesting structures in the houses compulsory. No building can be constructed without making structures for water harvesting.

watershed development projects in some areas have been successful in rejuvenating environment and economy. However. There are only a few success stories. In majority of cases. The programme is still in its nascent stage. There is a need to generate awareness regarding benefits of watershed development and management among people in the country, and through this integrated water resource management approach water availability can be ensured on sustainable basis.

Watershed Management largely depends upon the _____ .

1. Central and state Government
2. Community Participation
3. Management Programs
4. Development Projects

Options :

- 485584133049. 1
- 485584133050. 2
- 485584133051. 3
- 485584133052. 4

Question Number : 149 Question Id : 48558433264 Question Type : MCQ Option Shuffling : No Is Question Mandatory : No Calculator : None Response Time : N.A Think Time : N.A Minimum Instruction Time : 0

Correct Marks : 5 Wrong Marks : 1

Question Key Details :

Key	Value
Comprehension	Comp2

Read the passage and answer 5 questions that follow:

Watershed management basically refers to efficient management and conservation of surface and groundwater resources. It involves prevention of runoff and shortage and recharge of groundwater through various methods like percolation tanks. Recharge wells. Etc. however. In broad sense watershed management includes conservation. Regeneration and judicious use of all resources- natural (like land water plants and animals) and human with in a watershed. Watershed management aims at bringing about balance between natural resources on the one hand and society on the other. The success of watershed development largely depends upon community participation.

The Central and State Government have initiated many watershed development and management programmes in the country. some of these are being implemented by non-government organisations also. Haryali is a watershed development project sponsored by the Central Government which aims at enabling the rural populations to conserve water for drinking, irrigation, fisheries and afforestation. The Project is being executed by Gram Panchayats with people's participation. Neeru-Meeru (water and you) programme (in Andhra Pradesh) and Arvary Pani Sansad (in Alwar Rajasthan) have taken up constructions of various water-harvesting structures such as percolation tanks. Dug out ponds (Johand). Check dams. etc... through people's participation. Tamil Nadu has made water harvesting structures in the houses compulsory. No building can be constructed without making structures for water harvesting.

watershed development projects in some areas have been successful in rejuvenating environment and economy. However. There are only a few success stories. In majority of cases. The programme is still in its nascent stage. There is a need to generate awareness regarding benefits of watershed development and management among people in the country, and through this integrated water resource management approach water availability can be ensured on sustainable basis.

Which watershed development project is Sponsored by Central Government?

1. Arvary Pani Sansad
2. Compulsory water harvesting structures in all houses
3. Neeru-Meeru
4. Haryali

Options :

- 485584133053. 1
- 485584133054. 2
- 485584133055. 3
- 485584133056. 4

Question Number : 150 Question Id : 48558433265 Question Type : MCQ Option Shuffling : No Is Question Mandatory : No Calculator : None Response Time : N.A Think Time : N.A Minimum Instruction Time : 0

Correct Marks : 5 Wrong Marks : 1

Question Key Details :

Key	Value
Comprehension	Comp2

Read the passage and answer 5 questions that follow:

Watershed management basically refers to efficient management and conservation of surface and groundwater resources. It involves prevention of runoff and shortage and recharge of groundwater through various methods like percolation tanks. Recharge wells. Etc. however. In broad sense watershed management includes conservation. Regeneration and judicious use of all resources- natural (like land water plants and animals) and human with in a watershed. Watershed management aims at bringing about balance between natural resources on the one hand and society on the other. The success of watershed development largely depends upon community participation.

The Central and State Government have initiated many watershed development and management programmes in the country. some of these are being implemented by non-government organisations also. Haryali is a watershed development project sponsored by the Central Government which aims at enabling the rural populations to conserve water for drinking, irrigation, fisheries and afforestation. The Project is being executed by Gram Panchayats with people's participation. Neeru-Meeru (water and you) programme (in Andhra Pradesh) and Arvary Pani Sansad (in Alwar Rajasthan) have taken up constructions of various water-harvesting structures such as percolation tanks. Dug out ponds (Johand). Check dams. etc... through people's participation. Tamil Nadu has made water harvesting structures in the houses compulsory. No building can be constructed without making structures for water harvesting.

watershed development projects in some areas have been successful in rejuvenating environment and economy. However. There are only a few success stories. In majority of cases. The programme is still in its nascent stage. There is a need to generate awareness regarding benefits of watershed development and management among people in the country, and through this integrated water resource management approach water availability can be ensured on sustainable basis.

Which of the following watershed management programme was started in Rajasthan?

1. Arvary Pani Sansad
2. Neeru-Meeru
3. Haryali
4. Water harvesting

Options :

485584133057. 1
485584133058. 2
485584133059. 3
485584133060. 4

History

Group Number :	8
Group Id :	485584746
Group Maximum Duration :	45
Group Minimum Duration :	45
Show Attended Group? :	No
Edit Attended Group? :	No
Break time :	0
Group Marks :	200
Is this Group for Examiner? :	No

Examiner permission :
Show Progress Bar? :

Cant View
No

History

Section Id : 485584860
Section Number : 1
Section type : Online
Mandatory or Optional : Mandatory
Number of Questions : 50
Number of Questions to be attempted : 40
Section Marks : 200
Enable Mark as Answered Mark for Review and Clear Response : Yes
Maximum Instruction Time : 0
Sub-Section Number : 1
Sub-Section Id : 4855842428
Question Shuffling Allowed : Yes
Is Section Default? : null

Question Number : 151 Question Id : 48558433316 Question Type : MCQ Option Shuffling : No Is Question Mandatory :
No Calculator : None Response Time : N.A Think Time : N.A Minimum Instruction Time : 0
Correct Marks : 5 Wrong Marks : 1

Question Key Details :

Key	Value
Comprehension	MCQ

Who amongst the following was the engraver of Prabhavati Gupta's inscription?

1. Banabhatta
2. Chakradasa
3. Nagapiya
4. Sovanika

Options :

485584133261. 1
485584133262. 2
485584133263. 3
485584133264. 4

Question Number : 152 Question Id : 48558433317 Question Type : MCQ Option Shuffling : No Is Question Mandatory :
No Calculator : None Response Time : N.A Think Time : N.A Minimum Instruction Time : 0
Correct Marks : 5 Wrong Marks : 1

Question Key Details :

Key	Value
Comprehension	MCQ

How many 'Mahajanapadas' are there in total?

1. Fourteen
2. Six
3. Sixteen
4. Twelve

Options :

485584133265. 1
485584133266. 2
485584133267. 3
485584133268. 4

Question Number : 153 Question Id : 48558433318 Question Type : MCQ Option Shuffling : No Is Question Mandatory : No Calculator : None Response Time : N.A Think Time : N.A Minimum Instruction Time : 0

Correct Marks : 5 Wrong Marks : 1

Question Key Details :

Key	Value
Comprehension	MCQ

The Sangam texts mention categories of people living in the villages. Identify the categories:

- A. Masattuvan
- B. Setthis
- C. Uzhavar
- D. Adimai
- E. Vellalar

Choose the **correct** answer from the options given below:

1. A, B, C only
2. B, C, D only
3. C, D, E only
4. A, C, E only

Options :

485584133269. 1
485584133270. 2
485584133271. 3
485584133272. 4

Question Number : 154 Question Id : 48558433319 Question Type : MCQ Option Shuffling : No Is Question Mandatory : No Calculator : None Response Time : N.A Think Time : N.A Minimum Instruction Time : 0

Correct Marks : 5 Wrong Marks : 1

Question Key Details :

Key	Value
Comprehension	MCQ

Identify the writer of the play titled 'Mrichchhakatika'?

1. Vasistha
2. Shudraka
3. Gotama
4. Panini

Options :

485584133273. 1
485584133274. 2
485584133275. 3
485584133276. 4

Question Number : 155 Question Id : 48558433320 Question Type : MCQ Option Shuffling : No Is Question Mandatory : No Calculator : None Response Time : N.A Think Time : N.A Minimum Instruction Time : 0

Correct Marks : 5 Wrong Marks : 1

Question Key Details :

Key	Value
Comprehension	MCQ

Abdur Razzaq Samarqandi gave important description of which city?

1. Delhi
2. Vijayanagara
3. Sumtra
4. Magadha

Options :

485584133277. 1
485584133278. 2
485584133279. 3
485584133280. 4

Question Number : 156 Question Id : 48558433321 Question Type : MCQ Option Shuffling : No Is Question Mandatory : No Calculator : None Response Time : N.A Think Time : N.A Minimum Instruction Time : 0

Correct Marks : 5 Wrong Marks : 1

Question Key Details :

Key	Value
Comprehension	MCQ

From Malabar he went to Maldives, where he stayed for 10 months as qazi, but eventually decided to go to Sri Lanka. He took a ship to Sumatra and from there another ship to Chinese town Zaytun. He travelled extensively in China. Who was he?

1. Ibn Battuta
2. Al-Biruni
3. Bernier
4. Hiuen-Tsang

Options :

485584133281. 1
485584133282. 2
485584133283. 3
485584133284. 4

Question Number : 157 Question Id : 48558433322 Question Type : MCQ Option Shuffling : No Is Question Mandatory : No Calculator : None Response Time : N.A Think Time : N.A Minimum Instruction Time : 0

Correct Marks : 5 Wrong Marks : 1

Question Key Details :

Key	Value
Comprehension	MCQ

Mirabai, the best-known women poet of the bhakti tradition was Rajput princess from:-

1. Mewar
2. Marwar
3. Gujarat
4. Delhi

Options :

485584133285. 1
485584133286. 2
485584133287. 3
485584133288. 4

Question Number : 158 Question Id : 48558433323 Question Type : MCQ Option Shuffling : No Is Question Mandatory : No Calculator : None Response Time : N.A Think Time : N.A Minimum Instruction Time : 0

Correct Marks : 5 Wrong Marks : 1

Question Key Details :

Key	Value
Comprehension	MCQ

Which among the following religious teachers are associated with Punjab?

- A. Tukaram
- B. Ganj Bakhsh
- C. Miyan Mir
- D. Fariduddin Ganj-i-Shakar
- E. Raidas

Choose the **correct** answer from the options given below:

- 1. A, B, C only
- 2. B, C, D only
- 3. C, D, E only
- 4. A, C, E only

Options :

- 485584133289. 1
- 485584133290. 2
- 485584133291. 3
- 485584133292. 4

Question Number : 159 Question Id : 48558433324 Question Type : MCQ Option Shuffling : No Is Question Mandatory : No Calculator : None Response Time : N.A Think Time : N.A Minimum Instruction Time : 0

Correct Marks : 5 Wrong Marks : 1

Question Key Details :

Key	Value
Comprehension	MCQ

Match List I with List II:-

LIST I (Terms)		LIST II (Meaning)	
A.	Zimmi	I.	Tomb Shrine
B.	Jizya	II.	Protected
C.	Dargah	III.	Pilgrimage
D.	Ziyarat	IV.	A religious tax paid by Hindus

Choose the **correct** answer from the options given below:

- 1. A-I, B-II, C-IV, D-III
- 2. A-II, B-IV, C-III, D-I
- 3. A-IV, B-III, C-II, D-I
- 4. A-II, B-IV, C-I, D-III

Options :

- 485584133293. 1
- 485584133294. 2
- 485584133295. 3
- 485584133296. 4

Question Number : 160 Question Id : 48558433325 Question Type : MCQ Option Shuffling : No Is Question Mandatory : No Calculator : None Response Time : N.A Think Time : N.A Minimum Instruction Time : 0

Correct Marks : 5 Wrong Marks : 1

Question Key Details :

Key	Value
Comprehension	MCQ

Which of the following is considered as one of the most spectacular temple in the Vijayanagara Empire?

1. Vitthala Temple
2. Virupaksha Temple
3. Hazara Rama Temple
4. Brihadishvara Temple

Options :

- 485584133297. 1
- 485584133298. 2
- 485584133299. 3
- 485584133300. 4

Question Number : 161 Question Id : 48558433326 Question Type : MCQ Option Shuffling : No Is Question Mandatory : No Calculator : None Response Time : N.A Think Time : N.A Minimum Instruction Time : 0

Correct Marks : 5 Wrong Marks : 1

Question Key Details :

Key	Value
Comprehension	MCQ

In which year did Krishnadeva Raya defeat the sultan of Bijapur?

1. 1529
2. 1520
3. 1514
4. 1512

Options :

- 485584133301. 1
- 485584133302. 2
- 485584133303. 3
- 485584133304. 4

Question Number : 162 Question Id : 48558433327 Question Type : MCQ Option Shuffling : No Is Question Mandatory : No Calculator : None Response Time : N.A Think Time : N.A Minimum Instruction Time : 0

Correct Marks : 5 Wrong Marks : 1

Question Key Details :

Key	Value
Comprehension	MCQ

Arrange the establishment of the following kingdoms in a chronological order:

- A. Emergence of the Sultanates of Ahmadnagar, Bijapur and Berar
- B. Establishment of Bahmani Kingdom.
- C. Establishment of Vijayanagara Empire.
- D. Establishment of the Sultanate of Golconda.
- E. Conquest of Goa by the Portuguese

Choose the **correct** answer from the options given below:

- 1. D, E, A, B, C
- 2. B, C, D, E, A
- 3. A, B, C, D, E
- 4. C, B, A, E, D

Options :

- 485584133305. 1
- 485584133306. 2
- 485584133307. 3
- 485584133308. 4

Question Number : 163 Question Id : 48558433328 Question Type : MCQ Option Shuffling : No Is Question Mandatory : No Calculator : None Response Time : N.A Think Time : N.A Minimum Instruction Time : 0

Correct Marks : 5 Wrong Marks : 1

Question Key Details :

Key	Value
Comprehension	MCQ

From the statements given below, choose the **correct** ones about the fortifications and roads in Vijayanagara Empire.

- A. Paes, an ambassador from Persia, mentioned seven lines of forts.
- B. Razzaq said that cementing was used in the walls of the fort.
- C. There was no fortification around the agricultural fields.
- D. The fort was entered through well-guarded gates linking the city to the major road.
- E. The arch on the gateway led to the fortified settlement.

Choose the **correct** answer from the options given below:

- 1. E, A only
- 2. D, E only
- 3. C, D only
- 4. B, A only

Options :

- 485584133309. 1
- 485584133310. 2
- 485584133311. 3
- 485584133312. 4

Question Number : 164 Question Id : 48558433329 Question Type : MCQ Option Shuffling : No Is Question Mandatory : No Calculator : None Response Time : N.A Think Time : N.A Minimum Instruction Time : 0

Correct Marks : 5 Wrong Marks : 1

Question Key Details :

Key	Value
Comprehension	MCQ

Match List I with List II:-

LIST I (Foreign Traveler)		LIST II (Country)	
A.	Nicolo de Conti	I.	Russia
B.	Domingo Paes	II.	Persia
C.	Nikitin	III.	Italy
D.	Abdur Razzaq	IV.	Portugal

Choose the **correct** answer from the options given below:

1. A-III, B-IV, C-I, D-II
2. A-I, B-II, C-III, D-IV
3. A-IV, B-I, C-III, D-II
4. A-II, B-III, C-I, D-IV

Options :

- 485584133313. 1
- 485584133314. 2
- 485584133315. 3
- 485584133316. 4

Question Number : 165 Question Id : 48558433330 Question Type : MCQ Option Shuffling : No Is Question Mandatory : No Calculator : None Response Time : N.A Think Time : N.A Minimum Instruction Time : 0

Correct Marks : 5 Wrong Marks : 1

Question Key Details :

Key	Value
Comprehension	MCQ

Arrange these landmarks of the Mughal Empire in a chronological order.

- A. Reign of Akbar
- B. Reign of Humayun
- C. Reign of Shah Jahan
- D. Reign of Jahangir
- E. Reign of Aurangzeb

Choose the **correct** answer from the options given below:

- 1. A, B, C, D, E
- 2. B, A, D, C, E
- 3. E, D, B, C, A
- 4. B, C, A, D, E

Options :

- 485584133317. 1
- 485584133318. 2
- 485584133319. 3
- 485584133320. 4

Question Number : 166 Question Id : 48558433331 Question Type : MCQ Option Shuffling : No Is Question Mandatory : No Calculator : None Response Time : N.A Think Time : N.A Minimum Instruction Time : 0

Correct Marks : 5 Wrong Marks : 1

Question Key Details :

Key	Value
Comprehension	MCQ

In a painting titled "Jahangir's dream", the Mughal Emperor Jahangir is portrayed as embracing:-

- 1. Shah of Iraq
- 2. Abbasid Caliph
- 3. Shah of Iran
- 4. Safavid Shah Abbas

Options :

- 485584133321. 1
- 485584133322. 2
- 485584133323. 3
- 485584133324. 4

Question Number : 167 Question Id : 48558433332 Question Type : MCQ Option Shuffling : No Is Question Mandatory : No Calculator : None Response Time : N.A Think Time : N.A Minimum Instruction Time : 0

Correct Marks : 5 Wrong Marks : 1

Question Key Details :

Key	Value
Comprehension	MCQ

Akbar's quest for religious knowledge led to inter-faith debates in the Ibadat Khana at:-

1. Agra Fort
2. Red Fort of Shahjahanabad
3. Dargah of Nizamuddin Aulia
4. Fatehpur Sikri

Options :

485584133325. 1
485584133326. 2
485584133327. 3
485584133328. 4

Question Number : 168 Question Id : 48558433333 Question Type : MCQ Option Shuffling : No Is Question Mandatory : No Calculator : None Response Time : N.A Think Time : N.A Minimum Instruction Time : 0

Correct Marks : 5 Wrong Marks : 1

Question Key Details :

Key	Value
Comprehension	MCQ

Match List I with List II:-

LIST I		LIST II	
A.	Gulbadan Begum	I.	Alamgir Nama
B.	Abu'l Fzal	II.	Humayun Nama
C.	Muhammad Kazim	III.	Akbar Nama
D.	Abdul Hamid Lahori	IV.	Badshah Nama

Choose the **correct** answer from the options given below:

1. A-III, B-II, C-I, D-IV
2. A-I, B-II, C-IV, D-III
3. A-II, B-III, C-I, D-IV
4. A-IV, B-III, C-II, D-I

Options :

485584133329. 1
485584133330. 2
485584133331. 3
485584133332. 4

Question Number : 169 Question Id : 48558433334 Question Type : MCQ Option Shuffling : No Is Question Mandatory : No Calculator : None Response Time : N.A Think Time : N.A Minimum Instruction Time : 0

Correct Marks : 5 Wrong Marks : 1

Question Key Details :

Key	Value
Comprehension	MCQ

The areas under Ryotwari Settlements were surveyed after how many years?

1. 10 years
2. 20 years
3. 30 years
4. 40 years

Options :

- 485584133333. 1
- 485584133334. 2
- 485584133335. 3
- 485584133336. 4

Question Number : 170 Question Id : 48558433335 Question Type : MCQ Option Shuffling : No Is Question Mandatory : No Calculator : None Response Time : N.A Think Time : N.A Minimum Instruction Time : 0

Correct Marks : 5 Wrong Marks : 1

Question Key Details :

Key	Value
Comprehension	MCQ

Where was first British colonial rule established in India?

1. Madras Presidency
2. Bombay Presidency
3. Bengal Subah
4. Mysore State

Options :

- 485584133337. 1
- 485584133338. 2
- 485584133339. 3
- 485584133340. 4

Question Number : 171 Question Id : 48558433336 Question Type : MCQ Option Shuffling : No Is Question Mandatory : No Calculator : None Response Time : N.A Think Time : N.A Minimum Instruction Time : 0

Correct Marks : 5 Wrong Marks : 1

Question Key Details :

Key	Value
Comprehension	MCQ

The revenue system that was introduced in Bombay Deccan came to be known as:-

1. Permanent Settlement
2. Ryotwari Settlement
3. Mahalwari Settlement
4. Taluqudari Settlement

Options :

485584133341. 1
485584133342. 2
485584133343. 3
485584133344. 4

Question Number : 172 Question Id : 48558433337 Question Type : MCQ Option Shuffling : No Is Question Mandatory : No Calculator : None Response Time : N.A Think Time : N.A Minimum Instruction Time : 0

Correct Marks : 5 Wrong Marks : 1

Question Key Details :

Key	Value
Comprehension	MCQ

Which of the following are **correct** about Deccan riots?

- A. The movement began at Supa, a village in Poona.
- B. Supa was an inaccessible forest area with no markets.
- C. On 12 may 1875, ryots attacked the shopkeepers.
- D. Ryots set fire to the houses of British and protected the houses of Sahukars and moneylenders.
- E. Account books were not destroyed by the ryots rather preserved by them.

Choose the **correct** answer from the options given below:

1. D and E only
2. A and B only
3. A and C only
4. B and D only

Options :

485584133345. 1
485584133346. 2
485584133347. 3
485584133348. 4

Question Number : 173 Question Id : 48558433338 Question Type : MCQ Option Shuffling : No Is Question Mandatory : No Calculator : None Response Time : N.A Think Time : N.A Minimum Instruction Time : 0

Correct Marks : 5 Wrong Marks : 1

Question Key Details :

Key	Value
Comprehension	MCQ

Match List I with List II

LIST I		LIST II	
A.	British takeover of Deccan	I.	1757
B.	The British become rulers of Bengal	II.	1911
C.	Plague spreads to major cities	III.	1818
D.	Transfer of capital from Calcutta to Delhi	IV.	1896

Choose the **correct** answer from the options given below:

1. A-IV, B-III, C-II, D-I
2. A-I, B-II, C-III, D-IV
3. A-II, B-IV, C-I, D-III
4. A-III, B-I, C-IV, D-III

Options :

485584133349. 1
485584133350. 2
485584133351. 3
485584133352. 4

Question Number : 174 Question Id : 48558433339 Question Type : MCQ Option Shuffling : No Is Question Mandatory : No Calculator : None Response Time : N.A Think Time : N.A Minimum Instruction Time : 0

Correct Marks : 5 Wrong Marks : 1

Question Key Details :

Key	Value
Comprehension	MCQ

When was Awadh formally annexed by the British?

1. 1801
2. 1842
3. 1851
4. 1856

Options :

485584133353. 1
485584133354. 2
485584133355. 3
485584133356. 4

Question Number : 175 Question Id : 48558433340 Question Type : MCQ Option Shuffling : No Is Question Mandatory : No Calculator : None Response Time : N.A Think Time : N.A Minimum Instruction Time : 0

Correct Marks : 5 Wrong Marks : 1

Question Key Details :

Key	Value
Comprehension	MCQ

Who said, "A cherry that will drop into our mouth one day" in the context of Awadh?

1. Lord Dalhousie
2. Lord Wellesley
3. Lord Canning
4. Lord Curzon

Options :

- 485584133357. 1
- 485584133358. 2
- 485584133359. 3
- 485584133360. 4

Question Number : 176 Question Id : 48558433341 Question Type : MCQ Option Shuffling : No Is Question Mandatory : No Calculator : None Response Time : N.A Think Time : N.A Minimum Instruction Time : 0

Correct Marks : 5 Wrong Marks : 1

Question Key Details :

Key	Value
Comprehension	MCQ

Find out the name of the painter who painted "In Memoriam" From the option given below:

1. Thomas Jones Barker
2. Joseph Noel Paton
3. Miss Wheeler
4. Henry Lawrence

Options :

- 485584133361. 1
- 485584133362. 2
- 485584133363. 3
- 485584133364. 4

Question Number : 177 Question Id : 48558433342 Question Type : MCQ Option Shuffling : No Is Question Mandatory : No Calculator : None Response Time : N.A Think Time : N.A Minimum Instruction Time : 0

Correct Marks : 5 Wrong Marks : 1

Question Key Details :

Key	Value
Comprehension	MCQ

Under the leadership of which Governor General the custom of Sati was legally abolished?

1. Lord Curzon
2. Lord William Bentinck
3. Lord Dalhousie
4. Lord Wellesley

Options :

485584133365. 1
485584133366. 2
485584133367. 3
485584133368. 4

Question Number : 178 Question Id : 48558433343 Question Type : MCQ Option Shuffling : No Is Question Mandatory : No Calculator : None Response Time : N.A Think Time : N.A Minimum Instruction Time : 0

Correct Marks : 5 Wrong Marks : 1

Question Key Details :

Key	Value
Comprehension	MCQ

Arrange the following in chronological order according to their date of occurrence.

- A. Sepoy Mutiny in Meerut
- B. Summary settlement in Awadh
- C. Rising in Lucknow
- D. Rani of Jhansi killed in battle

Choose the **correct** answer from the options given below:

1. B, C, A, D
2. A, C, D, B
3. B, A, C, D
4. C, B, A, D

Options :

485584133369. 1
485584133370. 2
485584133371. 3
485584133372. 4

Question Number : 179 Question Id : 48558433344 Question Type : MCQ Option Shuffling : No Is Question Mandatory : No Calculator : None Response Time : N.A Think Time : N.A Minimum Instruction Time : 0

Correct Marks : 5 Wrong Marks : 1

Question Key Details :

Key	Value
Comprehension	MCQ

Arrange the following European trading companies in the chronological order in context of their settlement in India.

- A. Dutch
- B. British
- C. French
- D. Portuguese

Choose the **correct** answer from the options given below:

- 1. A, B, C, D
- 2. D, A, C, B
- 3. D, A, B, C
- 4. C, A, B, D

Options :

- 485584133373. 1
- 485584133374. 2
- 485584133375. 3
- 485584133376. 4

Question Number : 180 Question Id : 48558433345 Question Type : MCQ Option Shuffling : No Is Question Mandatory : No Calculator : None Response Time : N.A Think Time : N.A Minimum Instruction Time : 0

Correct Marks : 5 Wrong Marks : 1

Question Key Details :

Key	Value
Comprehension	MCQ

Which of the following statement is **incorrect**?

- 1. Lal, Bal and Pal were the leaders of Swadeshi Movement.
- 2. Extremist leaders are known for their moderate politics.
- 3. Moderates preferred gradual and persuasive approach.
- 4. Gopal Krishna Gokhale was a Moderate leader.

Options :

- 485584133377. 1
- 485584133378. 2
- 485584133379. 3
- 485584133380. 4

Question Number : 181 Question Id : 48558433346 Question Type : MCQ Option Shuffling : No Is Question Mandatory : No Calculator : None Response Time : N.A Think Time : N.A Minimum Instruction Time : 0

Correct Marks : 5 Wrong Marks : 1

Question Key Details :

Key	Value
Comprehension	MCQ

Through 'Salt March', Gandhi took the national movement to every household. This tactical wisdom was to bring larger participation of _____ in the freedom struggle.

1. Dalits
2. Menial workers
3. Peasants
4. Women

Options :

- 485584133381. 1
- 485584133382. 2
- 485584133383. 3
- 485584133384. 4

Question Number : 182 Question Id : 48558433347 Question Type : MCQ Option Shuffling : No Is Question Mandatory : No Calculator : None Response Time : N.A Think Time : N.A Minimum Instruction Time : 0

Correct Marks : 5 Wrong Marks : 1

Question Key Details :

Key	Value
Comprehension	MCQ

In which year did Gandhi left British India for South Africa as a lawyer?

1. 1881
2. 1893
3. 1894
4. 1915

Options :

- 485584133385. 1
- 485584133386. 2
- 485584133387. 3
- 485584133388. 4

Question Number : 183 Question Id : 48558433348 Question Type : MCQ Option Shuffling : No Is Question Mandatory : No Calculator : None Response Time : N.A Think Time : N.A Minimum Instruction Time : 0

Correct Marks : 5 Wrong Marks : 1

Question Key Details :

Key	Value
Comprehension	MCQ

Due to which event the British instituted 'censorship of the press' and detention without trial. It was later known as the Rowlatt Act?

1. The Great Depression
2. World War I
3. World War II
4. Balkan Wars

Options :

485584133389. 1
485584133390. 2
485584133391. 3
485584133392. 4

Question Number : 184 Question Id : 48558433349 Question Type : MCQ Option Shuffling : No Is Question Mandatory : No Calculator : None Response Time : N.A Think Time : N.A Minimum Instruction Time : 0

Correct Marks : 5 Wrong Marks : 1

Question Key Details :

Key	Value
Comprehension	MCQ

Match List I with List II

LIST I (Non-Cooperation Social Groups)		LIST II (Participation in Non-Cooperation)	
A.	The working class	I.	Refused to carry loads for colonial officers
B.	Hill tribes in northern Andhra	II.	Did not pay taxes
C.	Peasants in Kumaun	III.	Violated the forest laws
D.	Farmers in Awadh	IV.	Strike

Choose the correct answer from the options given below:

1. A-IV, B-III, C-I, D-II
2. A-I, B-III, C-II, D-IV
3. A-I, B-II, C-III, D-IV
4. A-IV, B-I, C-III, D-II

Options :

485584133393. 1
485584133394. 2
485584133395. 3
485584133396. 4

Question Number : 185 Question Id : 48558433350 Question Type : MCQ Option Shuffling : No Is Question Mandatory : No Calculator : None Response Time : N.A Think Time : N.A Minimum Instruction Time : 0

Correct Marks : 5 Wrong Marks : 1

Question Key Details :

Key	Value
-----	-------

Arrange the following in a chronological order.

- A. Resolution at Lahore, demanding a measure of autonomy for the Muslim-majority areas.
- B. Violence breaks out between Hindus and Muslims in Calcutta.
- C. The name Pakistan is coined by a Punjabi Muslim student at Cambridge, Choudhary Rehmat Ali.
- D. The Muslim League declares "Direct Action" for winning Pakistan.
- E. Mohammad Iqbal speaks of the need for an autonomous North West Indian Muslim state.

Choose the **correct** answer from the options given below:

1. A, C, E, B, D
2. C, E, B, D, A
3. E, C, A, D, B
4. B, C, D, A, E

Options :

485584133397. 1
485584133398. 2
485584133399. 3
485584133400. 4

Question Number : 186 Question Id : 48558433351 Question Type : MCQ Option Shuffling : No Is Question Mandatory : No Calculator : None Response Time : N.A Think Time : N.A Minimum Instruction Time : 0

Correct Marks : 5 Wrong Marks : 1

Question Key Details :

Key	Value
Comprehension	MCQ

"The British element is gone, but they have left the mischief behind" Who said this against the separate electorates?

1. Jawaharlal Nehru
2. Vallabhbhai Patel
3. B. Pocker Bahadur
4. R. V. Dhulekar

Options :

485584133401. 1
485584133402. 2
485584133403. 3
485584133404. 4

Question Number : 187 Question Id : 48558433352 Question Type : MCQ Option Shuffling : No Is Question Mandatory : No Calculator : None Response Time : N.A Think Time : N.A Minimum Instruction Time : 0

Correct Marks : 5 Wrong Marks : 1

Question Key Details :

Key	Value
-----	-------

Which of the following language was proposed by Mahatma Gandhi as the national language as it could be spoken by the common people?

1. Arabic
2. Sanskrit
3. Hindustani
4. Persian

Options :

485584133405. 1
485584133406. 2
485584133407. 3
485584133408. 4

Question Number : 188 Question Id : 48558433353 Question Type : MCQ Option Shuffling : No Is Question Mandatory : No Calculator : None Response Time : N.A Think Time : N.A Minimum Instruction Time : 0

Correct Marks : 5 Wrong Marks : 1

Question Key Details :

Key	Value
Comprehension	MCQ

Which articles provide the Fundamental Rights of "Cultural and Education Rights"

1. Articles 25-26
2. Articles 27-28
3. Articles 29-30
4. Articles 14-16

Options :

485584133409. 1
485584133410. 2
485584133411. 3
485584133412. 4

Question Number : 189 Question Id : 48558433354 Question Type : MCQ Option Shuffling : No Is Question Mandatory : No Calculator : None Response Time : N.A Think Time : N.A Minimum Instruction Time : 0

Correct Marks : 5 Wrong Marks : 1

Question Key Details :

Key	Value
Comprehension	MCQ

Who said that separate electorate is a "Poison that has entered the body politics of our country"?

1. S. N. Mukherjee
2. Vallabhbhai Patel
3. Rajendra Prasad
4. Jawaharlal Nehru

Options :

485584133413. 1
485584133414. 2
485584133415. 3
485584133416. 4

Question Number : 190 Question Id : 48558433355 Question Type : MCQ Option Shuffling : No Is Question Mandatory : No Calculator : None Response Time : N.A Think Time : N.A Minimum Instruction Time : 0

Correct Marks : 5 Wrong Marks : 1

Question Key Details :

Key	Value
Comprehension	MCQ

Arrange the following in a chronological order.

- A. Labour Government comes to Power in Britain.
- B. Cabinet Mission's Announcement.
- C. Muslim League announces Direct Action Day.
- D. General Election of India.

Choose the **correct** answer from the options given below:

1. A, B, C, D
2. A, D, B, C
3. C, A, B, D
4. B, A, C, D

Options :

485584133417. 1
485584133418. 2
485584133419. 3
485584133420. 4

Sub-Section Number : 2
Sub-Section Id : 4855842429
Question Shuffling Allowed : No
Is Section Default? : null

Question Number : 191 Question Id : 48558433356 Question Type : MCQ Option Shuffling : No Is Question Mandatory : No Calculator : None Response Time : N.A Think Time : N.A Minimum Instruction Time : 0

Correct Marks : 5 Wrong Marks : 1

Question Key Details :

Key	Value
Comprehension	Comp1

Read the passage and answer the questions:

Mesopotamian texts datable to the third millennium BCE refer to copper coming from a region called Magan. Interestingly enough copper found at Mesopotamian sites also contains traces of nickel. Other archaeological finds suggestive of long-distance contacts include Harappan seals, weights, dice and beads. Mesopotamian texts mention contact with regions named Dilmun, Magan and Meluhha. They mention the products from Meluhha: Carnelian, lapis lazuli, copper, gold, and varieties of wood. A Mesopotamian myth says of Meluhha: "May your bird be the haja-bird, may its call be heard in the royal palace."

"Meluhha" in the Mesopotamian texts refers to:-

1. Oman
2. Bahrain
3. Iran
4. Harappa

Options :

485584133421. 1
485584133422. 2
485584133423. 3
485584133424. 4

Question Number : 192 Question Id : 48558433357 Question Type : MCQ Option Shuffling : No Is Question Mandatory : No Calculator : None Response Time : N.A Think Time : N.A Minimum Instruction Time : 0

Correct Marks : 5 Wrong Marks : 1

Question Key Details :

Key	Value
Comprehension	Comp1

Read the passage and answer the questions:

Mesopotamian texts datable to the third millennium BCE refer to copper coming from a region called Magan. Interestingly enough copper found at Mesopotamian sites also contains traces of nickel. Other archaeological finds suggestive of long-distance contacts include Harappan seals, weights, dice and beads. Mesopotamian texts mention contact with regions named Dilmun, Magan and Meluhha. They mention the products from Meluhha: Carnelian, lapis lazuli, copper, gold, and varieties of wood. A Mesopotamian myth says of Meluhha: "May your bird be the haja-bird, may its call be heard in the royal palace."

According to some archaeologists, the haja-bird mentioned in the Mesopotamian texts was:-

1. Peacock
2. Eagle
3. Koel
4. Sparrow

Options :

485584133425. 1
485584133426. 2
485584133427. 3
485584133428. 4

Question Number : 193 Question Id : 48558433358 Question Type : MCQ Option Shuffling : No Is Question Mandatory : No Calculator : None Response Time : N.A Think Time : N.A Minimum Instruction Time : 0

Correct Marks : 5 Wrong Marks : 1

Question Key Details :

Key	Value
Comprehension	Compl

Read the passage and answer the questions:

Mesopotamian texts datable to the third millennium BCE refer to copper coming from a region called Magan. Interestingly enough copper found at Mesopotamian sites also contains traces of nickel. Other archaeological finds suggestive of long-distance contacts include Harappan seals, weights, dice and beads. Mesopotamian texts mention contact with regions named Dilmum, Magan and Meluhha. They mention the products from Meluhha: Carnelian, lapis lazuli, copper, gold, and varieties of wood. A Mesopotamian myth says of Meluhha: "May your bird be the haja-bird, may its call be heard in the royal palace."

What was the Harappan seal made of?

1. Chert
2. Carnelian
3. Steatite
4. Lapis Lazuli

Options :

485584133429. 1
485584133430. 2
485584133431. 3
485584133432. 4

Question Number : 194 Question Id : 48558433359 Question Type : MCQ Option Shuffling : No Is Question Mandatory : No Calculator : None Response Time : N.A Think Time : N.A Minimum Instruction Time : 0

Correct Marks : 5 Wrong Marks : 1

Question Key Details :

Key	Value
-----	-------

Comprehension	Comp1
---------------	-------

Read the passage and answer the questions:

Mesopotamian texts datable to the third millennium BCE refer to copper coming from a region called Magan. Interestingly enough copper found at Mesopotamian sites also contains traces of nickel. Other archaeological finds suggestive of long-distance contacts include Harappan seals, weights, dice and beads. Mesopotamian texts mention contact with regions named Dilmun, Magan and Meluhha. They mention the products from Meluhha: Carnelian, lapis lazuli, copper, gold, and varieties of wood. A Mesopotamian myth says of Meluhha: "May your bird be the aja-bird, may its call be heard in the royal palace."

Specialised drills have been found at which of the following Harappan sites?

- A. Nageshwar
- B. Dholavira
- C. Lothal
- D. Balakot
- E. Chanhudaro

Choose the **correct** answer from the options given below:

- 1. C, D, E only
- 2. B, C, E only
- 3. A, B, D only
- 4. A, B, C only

Options :

- 485584133433. 1
- 485584133434. 2
- 485584133435. 3
- 485584133436. 4

Question Number : 195 Question Id : 48558433360 Question Type : MCQ Option Shuffling : No Is Question Mandatory : No Calculator : None Response Time : N.A Think Time : N.A Minimum Instruction Time : 0

Correct Marks : 5 Wrong Marks : 1

Question Key Details :

Key	Value
Comprehension	Comp1

Read the passage and answer the questions:

Mesopotamian texts datable to the third millennium BCE refer to copper coming from a region called Magan. Interestingly enough copper found at Mesopotamian sites also contains traces of nickel. Other archaeological finds suggestive of long-distance contacts include Harappan seals, weights, dice and beads. Mesopotamian texts mention contact with regions named Dilmun, Magan and Meluhha. They mention the products from Meluhha: Carnelian, lapis lazuli, copper, gold, and varieties of wood. A Mesopotamian myth says of Meluhha: "May your bird be the aja-bird, may its call be heard in the royal palace."

Match List I with List II:-

LIST I		LIST II	
A.	Nageshwar	I.	Lapis Lazuli
B.	Shortughai	II.	Copper
C.	Lothal	III.	Shells
D.	Khetri	IV.	Carnelian

Choose the **correct** answer from the options given below:

1. A-IV, B-II, C-III, D-I
2. A-II, B-IV, C-I, D-III
3. A-III, B-I, C-IV, D-II
4. A-I, B-III, C-II, D-IV

Options :

485584133437. 1
485584133438. 2
485584133439. 3
485584133440. 4

Sub-Section Number :

3

Sub-Section Id :

4855842430

Question Shuffling Allowed :

No

Is Section Default? :

null

Question Number : 196 Question Id : 48558433361 Question Type : MCQ Option Shuffling : No Is Question Mandatory : No Calculator : None Response Time : N.A Think Time : N.A Minimum Instruction Time : 0

Correct Marks : 5 Wrong Marks : 1

Question Key Details :

Key	Value
Comprehension	Comp2

Read the passage and answer following five questions:

Here are verses from the Rigveda invoking Agni, the god of fire, often identified with the sacrificial fire, into which offerings were made so as to reach the other deities. "Bring, O strong one, this sacrifice of ours to the gods, O wise one, as a liberal giver. Bestow on us, O priest, abundant food. Agni, obtain, by sacrificing, mighty wealth for us". Verses such as these were composed in a special kind of Sanskrit, known as Vedic Sanskrit. They were taught orally to men belonging to priestly families.

The 'Rigveda' consists of _____ in praise of a variety of deities

1. Stories
2. Plays
3. Scripts
4. Hymns

Options :

485584133441. 1
485584133442. 2
485584133443. 3
485584133444. 4

Question Number : 197 Question Id : 48558433362 Question Type : MCQ Option Shuffling : No Is Question Mandatory : No Calculator : None Response Time : N.A Think Time : N.A Minimum Instruction Time : 0

Correct Marks : 5 Wrong Marks : 1

Question Key Details :

Key	Value
Comprehension	Comp2

Read the passage and answer following five questions:

Here are verses from the Rigveda invoking Agni, the god of fire, often identified with the sacrificial fire, into which offerings were made so as to reach the other deities. "Bring, O strong one, this sacrifice of ours to the gods, O wise one, as a liberal giver. Bestow on us, O priest, abundant food. Agni, obtain, by sacrificing, mighty wealth for us". Verses such as these were composed in a special kind of Sanskrit, known as Vedic Sanskrit. They were taught orally to men belonging to priestly families.

Identify among the following another deity widely mentioned in the Rigveda.

1. Shiva
2. Indra
3. Vishnu
4. Krishna

Options :

485584133445. 1
485584133446. 2
485584133447. 3
485584133448. 4

Question Number : 198 Question Id : 48558433363 Question Type : MCQ Option Shuffling : No Is Question Mandatory : No Calculator : None Response Time : N.A Think Time : N.A Minimum Instruction Time : 0

Correct Marks : 5 Wrong Marks : 1

Question Key Details :

Key	Value
Comprehension	Comp2

Read the passage and answer following five questions:

Here are verses from the Rigveda invoking Agni, the god of fire, often identified with the sacrificial fire, into which offerings were made so as to reach the other deities. "Bring, O strong one, this sacrifice of ours to the gods, O wise one, as a liberal giver. Bestow on us, O priest, abundant food. Agni, obtain, by sacrificing, mighty wealth for us". Verses such as these were composed in a special kind of Sanskrit, known as Vedic Sanskrit. They were taught orally to men belonging to priestly families.

Identify the timeline of Rigveda compilation.

1. C.1500 and 1000 BCE
2. C.1200 and 1000 BCE
3. C.1100 and 1200 BCE
4. C.1000 and 1500 BCE

Options :

485584133449. 1
485584133450. 2
485584133451. 3
485584133452. 4

Question Number : 199 Question Id : 48558433364 Question Type : MCQ Option Shuffling : No Is Question Mandatory : No Calculator : None Response Time : N.A Think Time : N.A Minimum Instruction Time : 0

Correct Marks : 5 Wrong Marks : 1

Question Key Details :

Key	Value
Comprehension	Comp2

Read the passage and answer following five questions:

Here are verses from the Rigveda invoking Agni, the god of fire, often identified with the sacrificial fire, into which offerings were made so as to reach the other deities. "Bring, O strong one, this sacrifice of ours to the gods, O wise one, as a liberal giver. Bestow on us, O priest, abundant food. Agni, obtain, by sacrificing, mighty wealth for us". Verses such as these were composed in a special kind of Sanskrit, known as Vedic Sanskrit. They were taught orally to men belonging to priestly families.

Which language was used to compose texts like Rigveda and Upanishads?

1. Hindavi
2. Pali
3. Sanskrit
4. Prakrit

Options :

485584133453. 1
485584133454. 2
485584133455. 3
485584133456. 4

Question Number : 200 Question Id : 48558433365 Question Type : MCQ Option Shuffling : No Is Question Mandatory : No Calculator : None Response Time : N.A Think Time : N.A Minimum Instruction Time : 0

Correct Marks : 5 Wrong Marks : 1

Question Key Details :

Key	Value
Comprehension	Comp2

Read the passage and answer following five questions:

Here are verses from the Rigveda invoking Agni, the god of fire, often identified with the sacrificial fire, into which offerings were made so as to reach the other deities. "Bring, O strong one, this sacrifice of ours to the gods, O wise one, as a liberal giver. Bestow on us, O priest, abundant food. Agni, obtain, by sacrificing, mighty wealth for us". Verses such as these were composed in a special kind of Sanskrit, known as Vedic Sanskrit. They were taught orally to men belonging to priestly families.

Identify the 'sacrifices' mentioned in Rigveda.

- A. Samsara
- B. Rajasuya
- C. Kutagarashala
- D. Soma
- E. Ashvamedha

Choose the **correct** answer from the options given below:

- 1. A, B only
- 2. B, D only
- 3. B, E only
- 4. C, E only

Options :

- 485584133457. 1
- 485584133458. 2
- 485584133459. 3
- 485584133460. 4

Legal Studies

Group Number :	9
Group Id :	485584747
Group Maximum Duration :	45
Group Minimum Duration :	45
Show Attended Group? :	No
Edit Attended Group? :	No
Break time :	0
Group Marks :	200
Is this Group for Examiner? :	No
Examiner permission :	Cant View
Show Progress Bar? :	No

Legal Studies

Section Id :	485584861
Section Number :	1
Section type :	Online

Mandatory or Optional :	Mandatory
Number of Questions :	50
Number of Questions to be attempted :	40
Section Marks :	200
Enable Mark as Answered Mark for Review and Clear Response :	Yes
Maximum Instruction Time :	0
Sub-Section Number :	1
Sub-Section Id :	4855842431
Question Shuffling Allowed :	Yes
Is Section Default? :	null

Question Number : 201 Question Id : 48558433836 Question Type : MCQ Option Shuffling : No Is Question Mandatory : No Calculator : None Response Time : N.A Think Time : N.A Minimum Instruction Time : 0

Correct Marks : 5 Wrong Marks : 1

Question Key Details :

Key	Value
Comprehension	MCQ

India's first Attorney General was

1. M.C. Setalvad
2. Justice P. Sathasivam
3. Justice V. Ramaswamy
4. Mukul Rohtagi

Options :

485584135341. 1
485584135342. 2
485584135343. 3
485584135344. 4

Question Number : 201 Question Id : 48558433836 Question Type : MCQ Option Shuffling : No Is Question Mandatory : No Calculator : None Response Time : N.A Think Time : N.A Minimum Instruction Time : 0

Correct Marks : 5 Wrong Marks : 1

Question Key Details :

Key	Value
Comprehension	MCQ

இந்தியாவின் முதல் அட்டர்னி ஜெனரல் யார்?

1. M.C. செதல்வத்
2. நீதியரசர் P. சதாசிவம்
3. நீதியரசர் V. இராமசுவாமி
4. முகுல் ரோஹ்தகி

Options :

485584135341. 1
485584135342. 2

485584135343. 3

485584135344. 4

Question Number : 202 Question Id : 48558433837 Question Type : MCQ Option Shuffling : No Is Question Mandatory : No Calculator : None Response Time : N.A Think Time : N.A Minimum Instruction Time : 0

Correct Marks : 5 Wrong Marks : 1

Question Key Details :

Key	Value
Comprehension	MCQ

What is enshrined in Article 217 of the Indian Constitution?

1. The procedure for appointment of judges of Supreme Court
2. The procedure for appointment of judges of High Court
3. The procedure for appointment of judges of lower Judiciary
4. The procedure of removal of Judges

Options :

485584135345. 1

485584135346. 2

485584135347. 3

485584135348. 4

Question Number : 202 Question Id : 48558433837 Question Type : MCQ Option Shuffling : No Is Question Mandatory : No Calculator : None Response Time : N.A Think Time : N.A Minimum Instruction Time : 0

Correct Marks : 5 Wrong Marks : 1

Question Key Details :

Key	Value
Comprehension	MCQ

இந்திய அரசியலமைப்பு சாசனத்தின் பிரிவு 217 இல் குறிப்பிடப்பட்டுள்ளது?

1. உச்ச நீதிமன்ற நீதிபதிகளை நியமிப்பதற்கான வழிமுறை
2. உயர் நீதிமன்ற நீதிபதிகளை நியமிப்பதற்கான வழிமுறை
3. கீழமை நீதிமன்ற நீதிபதிகளை நியமிப்பதற்கான வழிமுறை
4. நீதிபதிகளை நீக்குவதற்கான வழிமுறை

Options :

485584135345. 1

485584135346. 2

485584135347. 3

485584135348. 4

Question Number : 203 Question Id : 48558433838 Question Type : MCQ Option Shuffling : No Is Question Mandatory : No Calculator : None Response Time : N.A Think Time : N.A Minimum Instruction Time : 0

Correct Marks : 5 Wrong Marks : 1

Question Key Details :

Key	Value
-----	-------

Comprehension	MCQ
---------------	-----

The doctrine of *Locus Standi* means

1. Right to respect the court
2. Right to appear before the court
3. Right to stand with the court
4. Right to seek Justice

Options :

485584135349. 1
485584135350. 2
485584135351. 3
485584135352. 4

Question Number : 203 Question Id : 48558433838 Question Type : MCQ Option Shuffling : No Is Question Mandatory : No Calculator : None Response Time : N.A Think Time : N.A Minimum Instruction Time : 0

Correct Marks : 5 Wrong Marks : 1

Question Key Details :

Key	Value
Comprehension	MCQ

லோகஸ் ஸ்டாண்டி கோட்பாடு என்பது இதைக் குறிக்கிறது

1. நீதிமன்றத்தை மதிக்கும் உரிமை
2. நீதிமன்றத்தின் முன் ஆஜராகும் உரிமை
3. நீதிமன்றத்திற்கு கட்டுப்பட்டு நடக்கும் உரிமை
4. நீதியை பெறுவதற்கான உரிமை

Options :

485584135349. 1
485584135350. 2
485584135351. 3
485584135352. 4

Question Number : 204 Question Id : 48558433839 Question Type : MCQ Option Shuffling : No Is Question Mandatory : No Calculator : None Response Time : N.A Think Time : N.A Minimum Instruction Time : 0

Correct Marks : 5 Wrong Marks : 1

Question Key Details :

Key	Value
Comprehension	MCQ

Which Article of the Constitution of India says that the advisory jurisdiction of Supreme Court can be sought by President of India?

1. Article 140
2. Article 141
3. Article 142
4. Article 143

Options :

485584135353. 1
485584135354. 2
485584135355. 3
485584135356. 4

Question Number : 204 Question Id : 48558433839 Question Type : MCQ Option Shuffling : No Is Question Mandatory : No Calculator : None Response Time : N.A Think Time : N.A Minimum Instruction Time : 0

Correct Marks : 5 Wrong Marks : 1

Question Key Details :

Key	Value
Comprehension	MCQ

இந்திய குடியரசுத்தலைவர் தேவைப்பட்டால் உச்சநீதிமன்றத்தின் ஆலோசனையை கோரலாம் என குறிப்பிடப்பட்டுள்ள இந்திய அரசியலமைப்பு சட்டம் எது?

1. சட்டப்பிரிவு 140
2. சட்டப்பிரிவு 141
3. சட்டப்பிரிவு 142
4. சட்டப்பிரிவு 143

Options :

485584135353. 1
485584135354. 2
485584135355. 3
485584135356. 4

Question Number : 205 Question Id : 48558433840 Question Type : MCQ Option Shuffling : No Is Question Mandatory : No Calculator : None Response Time : N.A Think Time : N.A Minimum Instruction Time : 0

Correct Marks : 5 Wrong Marks : 1

Question Key Details :

Key	Value
Comprehension	MCQ

With respect to separation of power, which of the following are true?

- A. It requires non-Harmonious relation between the legislative, Executive and Judiciary
- B. Federal Government has law making powers different than that of states or provinces
- C. It allows for liberty as it avoids concentration of powers in one branch.
- D. It promotes efficiency
- E. It facilitates checks and balances of each branch in state.

Choose the correct answer from the options given below:

- 1. B, C, D, E only
- 2. B, C, D only
- 3. C, D, E only
- 4. A, C, B only

Options :

- 485584135357. 1
- 485584135358. 2
- 485584135359. 3
- 485584135360. 4

Question Number : 205 Question Id : 48558433840 Question Type : MCQ Option Shuffling : No Is Question Mandatory : No Calculator : None Response Time : N.A Think Time : N.A Minimum Instruction Time : 0

Correct Marks : 5 Wrong Marks : 1

Question Key Details :

Key	Value
Comprehension	MCQ

அதிகாரப் பிரிப்பு/பகிர்வு பொறுத்தவரையில், பின்வருவனவற்றுள் எது சரி?

- A. சட்டமன்றம், நிர்வாகம் மற்றும் நீதித்துறைக்கு இடையில் இணக்கமற்ற உறவு தேவைப்படுகிறது
- B. மாநிலங்கள் அல்லது மாகாணங்களின் சட்டம் இயற்றும் அதிகாரத்தில் மத்திய அரசின் அதிகாரம் மாறுபட்டு உள்ளது
- C. சுதந்திரத்தை அனுமதிக்கிறது, இதனால் அதிகாரம் ஒரே இடத்தில் குவிவதைத் தவிர்க்கிறது.
- D. செயல்முறையை ஊக்குவிக்கிறது
- E. மாநிலத்தில் உள்ள ஒவ்வொரு கிளையின் சரிபார்ப்புகள் மற்றும் நிலுவைகளை எளிதாக்குகிறது.

கீழே தரப்பட்டுள்ள வாய்ப்புகளில் இருந்து சரியான விடையைத் தேர்ந்தெடுக்கவும்:

- 1. B, C, D, E மட்டும்
- 2. B, C, D மட்டும்
- 3. C, D, E மட்டும்
- 4. A, C, B மட்டும்

Options :

- 485584135357. 1
- 485584135358. 2
- 485584135359. 3
- 485584135360. 4

Question Number : 206 Question Id : 48558433841 Question Type : MCQ Option Shuffling : No Is Question Mandatory : No Calculator : None Response Time : N.A Think Time : N.A Minimum Instruction Time : 0

Correct Marks : 5 Wrong Marks : 1

Question Key Details :

Key	Value
Comprehension	MCQ

Arrange the courts of civil Judges in a district in ascending order.

- A. First class Judicial Magistrate court
- B. Second Class Judicial Magistrate court
- C. Munsiff Courts
- D. Chief Judicial Magistrate Court

Choose the correct answer from the options given below:

- 1. B, D, A, C
- 2. C, B, A, D
- 3. A, B, C, D
- 4. D, A, C, B

Options :

- 485584135361. 1
- 485584135362. 2
- 485584135363. 3
- 485584135364. 4

Question Number : 206 Question Id : 48558433841 Question Type : MCQ Option Shuffling : No Is Question Mandatory : No Calculator : None Response Time : N.A Think Time : N.A Minimum Instruction Time : 0

Correct Marks : 5 Wrong Marks : 1

Question Key Details :

Key	Value
Comprehension	MCQ

ஒரு மாவட்டத்தில் உள்ள சிவில் நீதிபதிகளின் நீதிமன்றங்களை ஏறுவரிசையில் வரிசைப்படுத்தவும்.

- A. முதல் வகுப்பு நீதித்துறை மாஜிஸ்திரேட் நீதிமன்றம்
- B. இரண்டாம் வகுப்பு நீதித்துறை மாஜிஸ்திரேட் நீதிமன்றம்
- C. முன்சிஃப் நீதிமன்றம்
- D. தலைமை நீதித்துறை மாஜிஸ்திரேட் நீதிமன்றம்

கீழே தரப்பட்டுள்ள வாய்ப்புகளில் இருந்து சரியான விடையைத் தேர்ந்தெடுக்கவும்:

- 1. B, D, A, C
- 2. C, B, A, D
- 3. A, B, C, D
- 4. D, A, C, B

Options :

- 485584135361. 1
- 485584135362. 2
- 485584135363. 3
- 485584135364. 4

Question Number : 207 Question Id : 48558433842 Question Type : MCQ Option Shuffling : No Is Question Mandatory : No Calculator : None Response Time : N.A Think Time : N.A Minimum Instruction Time : 0

Correct Marks : 5 Wrong Marks : 1

Question Key Details :

Key	Value
Comprehension	MCQ

Arrange the stages of investigations initiated by police officer for the collection of evidence in order of their occurrence:

- A. Collection of evidence
- B. Ascertaining facts and circumstances
- C. Proceeding to spot
- D. Discovery and arrest of suspected offender
- E. Investigation ends in police report to magistrate

Choose the correct answer from the options given below:

- 1. C, D, B, A,E
- 2. C, B, D, A, E
- 3. B, E, A, C, D
- 4. A, B, C, D, E

Options :

- 485584135365. 1
- 485584135366. 2
- 485584135367. 3

Question Number : 207 Question Id : 48558433842 Question Type : MCQ Option Shuffling : No Is Question Mandatory : No Calculator : None Response Time : N.A Think Time : N.A Minimum Instruction Time : 0

Correct Marks : 5 Wrong Marks : 1

Question Key Details :

Key	Value
Comprehension	MCQ

ஒரு சம்பவம் நடைபெற்றதிலிருந்து ஒரு காவல்துறை அதிகாரி ஆதாரங்களை சேகரிக்க மேற்கொள்ளும் விசாரணை நிலைகளை சரியான வரிசையில் வரிசைப்படுத்தவும்:

- ஆதாரங்களை சேகரித்தல்
- உண்மைத்தன்மை மற்றும் சூழ்நிலைகளை கண்டறிதல்
- சம்பவ இடத்திற்கு விரைதல்
- குற்றம் செய்திருக்கலாம் என சந்தேகிக்கும் நபரை கண்டறிந்து கைது செய்தல்
- விசாரணை முடிந்து காவல்துறை அறிக்கையை மாஜிஸ்திரேட்டிடம் சமர்ப்பித்தல்

கீழே தரப்பட்டுள்ள வாய்ப்புகளில் இருந்து சரியான விடையைத் தேர்ந்தெடுக்கவும்:

1. C, D, B, A, E
2. C, B, D, A, E
3. B, E, A, C, D
4. A, B, C, D, E

Options :

485584135365. 1
485584135366. 2
485584135367. 3
485584135368. 4

Question Number : 208 Question Id : 48558433843 Question Type : MCQ Option Shuffling : No Is Question Mandatory : No Calculator : None Response Time : N.A Think Time : N.A Minimum Instruction Time : 0

Correct Marks : 5 Wrong Marks : 1

Question Key Details :

Key	Value
Comprehension	MCQ

A women in sheer destitute and impoverishment attempted to kill herself after failing in all ways to arrange for food for her starving children. She did it knowingly therefore she will be held guilty by the Court because:

1. the act was done under compulsion
2. the act was done out of necessity
3. the act was done due to insanity
4. the act was done intentionally

Options :

485584135369. 1
 485584135370. 2
 485584135371. 3
 485584135372. 4

Question Number : 208 Question Id : 48558433843 Question Type : MCQ Option Shuffling : No Is Question Mandatory : No Calculator : None Response Time : N.A Think Time : N.A Minimum Instruction Time : 0

Correct Marks : 5 Wrong Marks : 1

Question Key Details :

Key	Value
Comprehension	MCQ

பல்வேறு வழிகளில் பசியில் இருக்கும் தனது குழந்தைகளுக்கு உணவு வழங்க முயற்சி செய்து தோல்வியுற்ற பிறகு ஒரு பெண் தனது ஏழ்மை நிலை மற்றும் வறுமை காரணமாக தற்கொலைக்கு முயற்சிக்கிறார். அவர் இதைத் தெரிந்தே செய்கிறார், எனவே அவர் நீதிமன்றத்தின் முன்பு ஒரு குற்றவாளியாக நிறுத்தப்படுவார் ஏனெனில்:

1. கட்டாயத்தின் பேரில் ஒரு செயலை செய்தல்
2. தேவைக்காக ஒரு செயலை செய்தல்
3. முட்டாள்தனத்தால் ஒரு செயலை செய்தல்
4. வேண்டுமென்றே ஒரு செயலை செய்தல்

Options :

485584135369. 1
 485584135370. 2
 485584135371. 3
 485584135372. 4

Question Number : 209 Question Id : 48558433844 Question Type : MCQ Option Shuffling : No Is Question Mandatory : No Calculator : None Response Time : N.A Think Time : N.A Minimum Instruction Time : 0

Correct Marks : 5 Wrong Marks : 1

Question Key Details :

Key	Value
Comprehension	MCQ

Crime committed by structured groups typically involving the distribution of illegal goods and services to others is known as-

1. White Collar crime
2. Crime against groups
3. Organised Crimes
4. Gang War

Options :

485584135373. 1
 485584135374. 2

485584135375. 3

485584135376. 4

Question Number : 209 Question Id : 48558433844 Question Type : MCQ Option Shuffling : No Is Question Mandatory : No Calculator : None Response Time : N.A Think Time : N.A Minimum Instruction Time : 0

Correct Marks : 5 Wrong Marks : 1

Question Key Details :

Key	Value
Comprehension	MCQ

சட்டத்திற்கு புறம்பான சரக்கு மற்றும் சேவைகளை மற்றவர்களுக்கு வழங்கும் வேலைகளில் ஈடுபடும் ஒழுங்கமைக்கப்பட்ட குழுக்களால் மேற்கொள்ளப்படும் குற்றம் இவ்வாறு அழைக்கப்படும் -

1. செல்வாக்கு மிக்கவர்களால் மேற்கொள்ளப்படும் குற்றம்
2. குழுக்களுக்கு எதிரான குற்றம்
3. ஒழுங்கமைக்கப்பட்ட குற்றம்
4. குழுச் சண்டை

Options :

485584135373. 1

485584135374. 2

485584135375. 3

485584135376. 4

Question Number : 210 Question Id : 48558433845 Question Type : MCQ Option Shuffling : No Is Question Mandatory : No Calculator : None Response Time : N.A Think Time : N.A Minimum Instruction Time : 0

Correct Marks : 5 Wrong Marks : 1

Question Key Details :

Key	Value
Comprehension	MCQ

If the intention is to reap fruits from the trees, the trees would be considered

1. Immovable property
2. Movable property
3. General property
4. Intangible property

Options :

485584135377. 1

485584135378. 2

485584135379. 3

485584135380. 4

Question Number : 210 Question Id : 48558433845 Question Type : MCQ Option Shuffling : No Is Question Mandatory : No Calculator : None Response Time : N.A Think Time : N.A Minimum Instruction Time : 0

Correct Marks : 5 Wrong Marks : 1

Question Key Details :

Key	Value
Comprehension	MCQ

மரங்களில் இருந்து பழங்களை அறுவடை செய்வது நோக்கம் எனில், மரங்கள் இவ்வாறு கருதப்படும்

1. அசையா சொத்து
2. அசையும் சொத்து
3. பொதுச்சொத்து
4. தொட்டுணர முடியாத சொத்து

Options :

485584135377. 1
485584135378. 2
485584135379. 3
485584135380. 4

Question Number : 211 Question Id : 48558433846 Question Type : MCQ Option Shuffling : No Is Question Mandatory : No Calculator : None Response Time : N.A Think Time : N.A Minimum Instruction Time : 0

Correct Marks : 5 Wrong Marks : 1

Question Key Details :

Key	Value
Comprehension	MCQ

A sells his garden as well as house through the instrument to B. whereas B, wants to retain only the house and wants to cancel the garden. B has to retain the garden if he wants the house or cancel the whole transaction.' Which of the following doctrine is applicable in this instance

1. Doctrine of lis Pendens
2. Doctrine of Suitability
3. Doctrine of Election
4. Doctrine of Exchange

Options :

485584135381. 1
485584135382. 2
485584135383. 3
485584135384. 4

Question Number : 211 Question Id : 48558433846 Question Type : MCQ Option Shuffling : No Is Question Mandatory : No Calculator : None Response Time : N.A Think Time : N.A Minimum Instruction Time : 0

Correct Marks : 5 Wrong Marks : 1

Question Key Details :

Key	Value
Comprehension	MCQ

A என்பவர் B என்பவருக்கு தனது தோட்டம் மற்றும் வீட்டை ஒரு நிறுவனம் மூலம் விற்கிறார். இந்நிலையில் B, வீட்டை மட்டும் வைத்துக்கொள்வதாகவும் தோட்டத்தை இரத்து செய்ய வேண்டும் என விரும்புகிறார். B க்கு வீடு வேண்டும் என்றாலும் அல்லது முழு பரிவர்த்தனையையும் ரத்துசெய்ய விரும்பினால், அவர் தோட்டத்தை வைத்துக்கொள்ள வேண்டும்.' இந்தச் சூழ்நிலையில் பின்வரும் எந்தக் கோட்பாடு பொருந்தும்?

1. லிஸ் பெண்டிஸ் கோட்பாடு
2. பொருந்தக்கூடிய கோட்பாடு
3. தேர்தல் கோட்பாடு
4. பரிமாற்ற கோட்பாடு

Options :

485584135381. 1
 485584135382. 2
 485584135383. 3
 485584135384. 4

Question Number : 212 Question Id : 48558433847 Question Type : MCQ Option Shuffling : No Is Question Mandatory : No Calculator : None Response Time : N.A Think Time : N.A Minimum Instruction Time : 0

Correct Marks : 5 Wrong Marks : 1

Question Key Details :

Key	Value
Comprehension	MCQ

In what kind of transfer of property, the right and liabilities of the parties to exchange shall be that of the rights and liabilities of the buyer to the extent of receiving and that of the seller to the extent of giving.

1. Gift
2. Lease
3. Exchange
4. Mortgage

Options :

485584135385. 1
 485584135386. 2
 485584135387. 3
 485584135388. 4

Question Number : 212 Question Id : 48558433847 Question Type : MCQ Option Shuffling : No Is Question Mandatory : No Calculator : None Response Time : N.A Think Time : N.A Minimum Instruction Time : 0

Correct Marks : 5 Wrong Marks : 1

Question Key Details :

Key	Value
Comprehension	MCQ

எந்த வகையான சொத்துப் பரிமாற்றத்தில், பரிவர்த்தனை செய்வதற்கான தரப்பினரின் சட்டம் மற்றும் பொறுப்புகள், வாங்குபவரின் பொறுப்புகள் பெறும் அளவிற்கும் மற்றும் விற்பவரின் கொடுக்கல் வாங்கல் அளவிற்கும் உரிமைகள் மற்றும் பொறுப்புகள் அடங்கும்.

1. பரிசு
2. குத்தகை
3. பரிமாற்றம்
4. அடமானம்

Options :

485584135385. 1
 485584135386. 2
 485584135387. 3
 485584135388. 4

Question Number : 213 Question Id : 48558433848 Question Type : MCQ Option Shuffling : No Is Question Mandatory : No Calculator : None Response Time : N.A Think Time : N.A Minimum Instruction Time : 0

Correct Marks : 5 Wrong Marks : 1

Question Key Details :

Key	Value
Comprehension	MCQ

Match List I with List II

LIST I		LIST II	
A.	False Imprisonment	I.	act of deliberate physical harm to victim
B.	Unlawful harassment	II.	claimant to be knowingly confined
C.	Tresspass to Chattels	III.	invade real property without claimants approval
D.	Tresspass to land	IV.	intermeddle with a chattel which was in the possession of claimant

Choose the correct answer from the options given below:

1. A-I, B-IV, C-II, D-III
2. A-II, B-I, C-IV, D-III
3. A-III, B-II, C-I, D-IV
4. A-IV, B-III, C-I, D-II

Options :

485584135389. 1
 485584135390. 2
 485584135391. 3
 485584135392. 4

Question Number : 213 Question Id : 48558433848 Question Type : MCQ Option Shuffling : No Is Question Mandatory : No Calculator : None Response Time : N.A Think Time : N.A Minimum Instruction Time : 0

Correct Marks : 5 Wrong Marks : 1

Question Key Details :

Key	Value
Comprehension	MCQ

பட்டியல் I ஐ பட்டியல் II உடன் பொருத்துக

பட்டியல் I		பட்டியல் II	
A.	தவறுதலாக சிறைவாசம் பெறுதல்	I.	பாதிக்கப்பட்டவர்களுக்கு வேண்டுமென்றே உடல் ரீதியான தீங்கு
B.	சட்டத்திற்கு புறம்பான துன்புறுத்தல்	II.	தெரிந்தே கட்டுப்படுத்தப்பட வேண்டும் என்று கோருபவர்
C.	அரட்டையில் அத்துமீறல்	III.	உரிமை கோருபவரின் அனுமதியின்றி உரிமை கோரும் வகையில் உள்நுழைதல்
D.	அனுமதியின்றி நிலத்தில் உள்நுழைதல்	IV.	உரிமை கோருபவர் வசம் அரட்டையில் தலையிடுதல்

கீழே தரப்பட்டுள்ள வாய்ப்புகளில் இருந்து சரியான விடையைத் தேர்ந்தெடுக்கவும்:

1. A-I, B-IV, C-II, D-III
2. A-II, B-I, C-IV, D-III
3. A-III, B-II, C-I, D-IV
4. A-IV, B-III, C-I, D-II

Options :

485584135389. 1
485584135390. 2
485584135391. 3
485584135392. 4

Question Number : 214 Question Id : 48558433849 Question Type : MCQ Option Shuffling : No Is Question Mandatory : No Calculator : None Response Time : N.A Think Time : N.A Minimum Instruction Time : 0

Correct Marks : 5 Wrong Marks : 1

Question Key Details :

Key	Value
Comprehension	MCQ

The principle of "Duty of Care" is explained in which case:-

1. Donoghue v. Stevenson
2. Rylands v. Fletcher
3. Ashby v. White
4. M.C. Mehta v. Union of India

Options :

485584135393. 1
485584135394. 2
485584135395. 3
485584135396. 4

Question Number : 214 Question Id : 48558433849 Question Type : MCQ Option Shuffling : No Is Question Mandatory : No Calculator : None Response Time : N.A Think Time : N.A Minimum Instruction Time : 0

Correct Marks : 5 Wrong Marks : 1

Question Key Details :

Key	Value
Comprehension	MCQ

"பாதுகாக்கும் கடமைகள்" கோட்பாடு/தத்துவம் இதில் விளக்கப்பட்டுள்ளது:-

1. டோனோகுவே v. ஸ்டீவன்சன்
2. ரைலேண்ட்ஸ் v. பிளெச்சர்
3. ஆஷ்பி v. வைட்
4. M.C. மேத்தா v. இந்திய ஒன்றியம்

Options :

485584135393. 1
485584135394. 2
485584135395. 3
485584135396. 4

Question Number : 215 Question Id : 48558433850 Question Type : MCQ Option Shuffling : No Is Question Mandatory : No Calculator : None Response Time : N.A Think Time : N.A Minimum Instruction Time : 0

Correct Marks : 5 Wrong Marks : 1

Question Key Details :

Key	Value
Comprehension	MCQ

A contract without consideration is

1. valid
2. Void
3. Voidable
4. Void ab initio

Options :

485584135397. 1
485584135398. 2
485584135399. 3
485584135400. 4

Question Number : 215 Question Id : 48558433850 Question Type : MCQ Option Shuffling : No Is Question Mandatory : No Calculator : None Response Time : N.A Think Time : N.A Minimum Instruction Time : 0

Correct Marks : 5 Wrong Marks : 1

Question Key Details :

Key	Value
Comprehension	MCQ

கருத்தில் கொள்ளாமல் மேற்கொள்ளப்படும் ஒப்பந்தம்

1. செல்லுபடியாகும்
2. வெற்றிடமானது
3. செல்லாத ஒப்பந்தம்
4. தொடக்கத்தில் வெற்றிடமில்லை

Options :

485584135397. 1
485584135398. 2
485584135399. 3
485584135400. 4

Question Number : 216 Question Id : 48558433851 Question Type : MCQ Option Shuffling : No Is Question Mandatory : No Calculator : None Response Time : N.A Think Time : N.A Minimum Instruction Time : 0

Correct Marks : 5 Wrong Marks : 1

Question Key Details :

Key	Value
Comprehension	MCQ

A contract can be enforced before the court only if it creates legal obligation among the parties. In light of the statement choose the correct answer.

- A. An agreement entered into with a minor is enforceable in exceptional circumstance
- B. An agreement entered between husband and wife cannot be enforced in the court
- C. An agreement with inadequate consideration is a voidable agreement
- D. A promise without consideration can create a valid contract
- E. An agreement with an intoxicated person cannot be called as contract

Choose the correct answer from the options given below:

- 1. A, B, D only
- 2. B and E only
- 3. C, D and E only
- 4. A, C and D only

Options :

- 485584135401. 1
- 485584135402. 2
- 485584135403. 3
- 485584135404. 4

Question Number : 216 Question Id : 48558433851 Question Type : MCQ Option Shuffling : No Is Question Mandatory : No Calculator : None Response Time : N.A Think Time : N.A Minimum Instruction Time : 0

Correct Marks : 5 Wrong Marks : 1

Question Key Details :

Key	Value
Comprehension	MCQ

ஒப்பந்தத்தில் உள்ள தரப்பினரிடையே சட்டப்படியான முரண்பாடுகளை ஏற்படுத்தினால் மட்டுமே ஒரு ஒப்பந்தத்தை நீதிமன்றத்தின் கொண்டு வர முடியும். பின்வரும் கூற்றுகளில் இருந்து சரியான ஒன்றைத் தேர்ந்தெடுக்கவும்.

- A. விதிவிலக்கான சந்தர்ப்பங்களில் மட்டுமே மைனர் உடன் மேற்கொள்ளப்படும் ஒப்பந்தம் ஏற்றுக்கொள்ளப்படும்
- B. ஒரு கணவன் மற்றும் மனைவிக்கு இடையே மேற்கொள்ளப்படும் ஒப்பந்தத்தை நீதிமன்றத்தில் முறையிட முடியாது
- C. போதுமான பரிசீலனைகள் இல்லாத ஒப்பந்தம் செல்லாத ஒப்பந்தமாகும்
- D. பரிசீலிக்காமல் கொடுக்கப்படும் வாக்குறுதி ஒரு செல்லுபடியாவும் ஒப்பந்தமாக கருதப்படும்
- E. குடிபோதையில் உள்ள ஒருவருடன் மேற்கொள்ளப்படும் ஒரு ஒப்பந்தம் ஒப்பந்தமாக கருதப்படாது

கீழே தரப்பட்டுள்ள வாய்ப்புகளில் இருந்து சரியான விடையைத் தேர்ந்தெடுக்கவும்:

- 1. A, B, D மட்டும்
- 2. B மற்றும் E மட்டும்
- 3. C, D மற்றும் E மட்டும்
- 4. A, C மற்றும் D மட்டும்

Options :

- 485584135401. 1
- 485584135402. 2
- 485584135403. 3
- 485584135404. 4

Question Number : 217 Question Id : 48558433852 Question Type : MCQ Option Shuffling : No Is Question Mandatory : No Calculator : None Response Time : N.A Think Time : N.A Minimum Instruction Time : 0

Correct Marks : 5 Wrong Marks : 1

Question Key Details :

Key	Value
Comprehension	MCQ

Match List I with List II

LIST I		LIST II	
A.	Novation	I.	Terms of contract of modified
B.	Rescission	II.	New contract is substituted for an old contract.
C.	Waiver	III.	Certain or all terms of contract are cancelled
D.	Alteration	IV.	Parties to a contract abandon their mutual rights

Choose the correct answer from the options given below:

1. A-II, B-III, C-IV, D-I
2. A-II, B-I, C-III, D-IV
3. A-I, B-III, C-IV, D-II
4. A-III, B-II, C-IV, D-I

Options :

485584135405. 1
485584135406. 2
485584135407. 3
485584135408. 4

Question Number : 217 Question Id : 48558433852 Question Type : MCQ Option Shuffling : No Is Question Mandatory : No Calculator : None Response Time : N.A Think Time : N.A Minimum Instruction Time : 0

Correct Marks : 5 Wrong Marks : 1

Question Key Details :

Key	Value
Comprehension	MCQ

பட்டியல் I ஐ பட்டியல் II உடன் பொருத்துக

பட்டியல் I		பட்டியல் II	
A.	புதுமை/ புதிய	I.	ஒப்பந்தத்தின் விதிமுறைகளில் மாற்றம்
B.	ரத்து	II.	முந்தைய ஒப்பந்தத்திற்கு பதிலாக புதிய ஒப்பந்தம்
C.	விலக்கு/ தள்ளுபடி	III.	குறிப்பிட்ட அல்லது அனைத்து விதிமுறைகளும் ரத்து செய்யப்படுவது
D.	மாற்றம்	IV.	ஒப்பந்தத்தில் உள்ள தரப்பினர்கள் தங்கள் பரஸ்பர உரிமைகளை கைவிடுகின்றனர்

கீழே தரப்பட்டுள்ள வாய்ப்புகளில் இருந்து சரியான விடையைத் தேர்ந்தெடுக்கவும்:

1. A-II, B-III, C-IV, D-I
2. A-II, B-I, C-III, D-IV
3. A-I, B-III, C-IV, D-II
4. A-III, B-II, C-IV, D-I

Options :

485584135405. 1
485584135406. 2
485584135407. 3
485584135408. 4

Question Number : 218 Question Id : 48558433853 Question Type : MCQ Option Shuffling : No Is Question Mandatory : No Calculator : None Response Time : N.A Think Time : N.A Minimum Instruction Time : 0

Correct Marks : 5 Wrong Marks : 1

Question Key Details :

Key	Value
Comprehension	MCQ

'A' agrees to supply 200 liters of oil to 'B' on 1st February 2023. The contract was entered between the two on 15th January 2023. On 31st January 2023, 'A' informed 'B' that the consignment has been dispatched and would reach 'B' on scheduled date. On 1st Feb 2023, 'B' refused to accept the oil as he did not have sufficient space to store the oil.

What is the remedy available with 'A'?

1. No remedy as the contract is discharged by impossibility of performance
2. No remedy is available as 'A' will get back his goods, so has not suffered any loss
3. 'A' is entitled to receive compensation from 'B' for breach of contract
4. 'A' can wait till 'B' arrange for warehouse

Options :

485584135409. 1

485584135410. 2

485584135411. 3

485584135412. 4

Question Number : 218 Question Id : 48558433853 Question Type : MCQ Option Shuffling : No Is Question Mandatory : No Calculator : None Response Time : N.A Think Time : N.A Minimum Instruction Time : 0

Correct Marks : 5 Wrong Marks : 1

Question Key Details :

Key	Value
Comprehension	MCQ

1 பிப்ரவரி 2023 அன்று 'A' என்பவர் 200 லிட்டர்கள் ஆயிலை 'B' க்கு சப்ளை செய்வதாக ஒப்புக்கொள்கிறார். இந்த ஒப்பந்தமானது இருவருக்குமிடையில் 15 ஜனவரி 2023 அன்று ஏற்படுத்தப்படுகிறது. 31 ஜனவரி 2023 அன்று, 'A' தரப்பிலிருந்து 'B' க்கு தொகுப்பு அனுப்பப்பட்டதாகவும் குறிப்பிட்ட தேதியில் வந்தடையும் என்று 'B' க்கு தெரிவிக்கப்படுகிறது. 1 பிப்ரவரி 2023 அன்று, 'B' என்பவர் தன்னிடம் ஆயிலை சேமித்து வைக்க போதுமான இடமில்லை எனக்கூறி ஆயிலை ஏற்க மறுக்கிறார்.

எனில் தற்போது 'A' க்கு உள்ள தீர்வுகள் என்ன?

1. செயல்திறனின் சாத்தியமின்மையால் ஒப்பந்தம் இரத்து செய்யப்படுவதால் தீர்வு இல்லை
2. வேறு தீர்வுகள் எதுவுமில்லை, எனவே, மேலும் இழப்பு ஏற்படுவதைத் தவிர்க்க 'A' தனது சரக்குகளை திரும்பப் பெறலாம்
3. ஒப்பந்தத்தை மீறியதற்காக 'A' க்கு 'B' இடமிருந்து இழப்பீட்டை பெற உரிமையுள்ளது
4. 'B' சேமிப்பிடத்தை ஏற்பாடு செய்யும் வரை 'A' காத்திருக்கலாம்

Options :

485584135409. 1

485584135410. 2

485584135411. 3

485584135412. 4

Question Number : 219 Question Id : 48558433854 Question Type : MCQ Option Shuffling : No Is Question Mandatory : No Calculator : None Response Time : N.A Think Time : N.A Minimum Instruction Time : 0

Correct Marks : 5 Wrong Marks : 1

Question Key Details :

Key	Value
Comprehension	MCQ

Which of the given statements is NOT correct for the Tribunals as a dispute resolution institution?

1. The 42nd Amendment Act empowered the Parliament to set up tribunals for adjudication of specialised disputes
2. The tribunals are meant to replace the courts as the courts are over burdened with pendency of cases.
3. The decisions of the tribunals could be scrutinised by the division of High Courts
4. Regulations oversee the law and order compliance by the tribunals in the relevant government sector.

Options :

485584135413. 1
485584135414. 2
485584135415. 3
485584135416. 4

Question Number : 219 Question Id : 48558433854 Question Type : MCQ Option Shuffling : No Is Question Mandatory : No Calculator : None Response Time : N.A Think Time : N.A Minimum Instruction Time : 0

Correct Marks : 5 Wrong Marks : 1

Question Key Details :

Key	Value
Comprehension	MCQ

பின்வருவனவற்றுள் எது சிக்கலைத் தீர்க்கும் நிறுவனமாக உள்ள தீர்ப்பாயங்கள் குறித்த தவறான கூற்றாகும்?

1. 42வது திருத்தச் சட்டம் குறிப்பிட்ட வழக்குகளில் தீர்ப்புகளை வழங்க ஒரு தீர்ப்பாயத்தை ஏற்படுத்த பாராளுமன்றத்திற்கு அதிகாரத்தை வழங்குகிறது
2. நீதிமன்றங்களில் நிலுவையில் உள்ள வழக்குகளின் சுமையைக் குறைப்பதற்காக தீர்ப்பாயங்கள் ஏற்படுத்தப்பட்டது.
3. தீர்ப்பாயங்களின் முடிவுகளை உயர் நீதிமன்றத்தின் அமர்வுகளால் இரத்து செய்ய முடியும்
4. சம்பந்தப்பட்ட அரசாங்கத் துறைகளில் உள்ள தீர்ப்பாயங்களால் சட்டம் மற்றும் ஒழுங்கின் இணக்கம் ஒழுங்குபடுத்தப்படுகிறது.

Options :

485584135413. 1
485584135414. 2
485584135415. 3
485584135416. 4

Question Number : 220 Question Id : 48558433855 Question Type : MCQ Option Shuffling : No Is Question Mandatory : No Calculator : None Response Time : N.A Think Time : N.A Minimum Instruction Time : 0

Correct Marks : 5 Wrong Marks : 1

Question Key Details :

Key	Value
Comprehension	MCQ

Choose the correct statements

- A. The 42nd Amendment Act ushered the era of Human Rights in India
- B. The 42nd Amendment Act 1976 added Articles 323 A and 323 B to the Constitution of India
- C. Administrative Tribunals Act 1985 was enacted to cater the needs of SC/ST/OBC people.
- D. In L Chandra Kumar case, the seven judge bench of the Supreme Court held that tribunals would not take away the exclusive jurisdiction of the courts.

Choose the correct answer from the options given below:

- 1. A, B, C only
- 2. B and C only
- 3. B and D only
- 4. C and D only

Options :

- 485584135417. 1
- 485584135418. 2
- 485584135419. 3
- 485584135420. 4

Question Number : 220 Question Id : 48558433855 Question Type : MCQ Option Shuffling : No Is Question Mandatory : No Calculator : None Response Time : N.A Think Time : N.A Minimum Instruction Time : 0

Correct Marks : 5 Wrong Marks : 1

Question Key Details :

Key	Value
Comprehension	MCQ

சரியான கூற்றைத் தேர்ந்தெடுக்கவும்

- A. 42வது திருத்தச் சட்டம் இந்தியாவில் மனித உரிமைகள் குறித்த விழிப்புணர்வை ஏற்படுத்தியது
- B. 42வது திருத்தச் சட்டம், 1976 இந்திய அரசியலமைப்பு சாசனத்தில் சட்டப்பிரிவுகள் 323 A மற்றும் 323 B ஐச் சேர்த்தது
- C. நிர்வாக தீர்ப்பாயச் சட்டம் 1985 SC/ST/OBC மக்களின் தேவையை பூர்த்தி செய்ய கொண்டு வரப்பட்டது.
- D. L சந்திர குமார் வழக்கில், உச்சநீதிமன்றத்தின் ஏழு நீதிபதிகள் அடங்கிய அமர்வு நீதிமன்றங்களின் பிரத்தியேக அதிகார வரம்பை தீர்ப்பாயங்கள் பறிக்காது என்று கூறியது.

கீழே தரப்பட்டுள்ள வாய்ப்புகளில் இருந்து சரியான விடையைத் தேர்ந்தெடுக்கவும்:

- 1. A, B, C மட்டும்
- 2. B மற்றும் C மட்டும்
- 3. B மற்றும் D மட்டும்
- 4. C மற்றும் D மட்டும்

Options :

- 485584135417. 1
- 485584135418. 2
- 485584135419. 3
- 485584135420. 4

Question Number : 221 Question Id : 48558433856 Question Type : MCQ Option Shuffling : No Is Question Mandatory : No Calculator : None Response Time : N.A Think Time : N.A Minimum Instruction Time : 0

Correct Marks : 5 Wrong Marks : 1

Question Key Details :

Key	Value
Comprehension	MCQ

Central Vigilance Commission (CVC) was set up on the recommendation of which Committee:

- 1. Narsimhan Committee
- 2. Verma Committee
- 3. Tiwari Committee
- 4. Santhanam Committee

Options :

- 485584135421. 1
- 485584135422. 2
- 485584135423. 3
- 485584135424. 4

Question Number : 221 Question Id : 48558433856 Question Type : MCQ Option Shuffling : No Is Question Mandatory : No Calculator : None Response Time : N.A Think Time : N.A Minimum Instruction Time : 0

Correct Marks : 5 Wrong Marks : 1

Question Key Details :

Key	Value
Comprehension	MCQ

மத்திய விஜிலென்ஸ் ஆணையம் (CVC) என்பது பின்வரும் எந்த ஆணையத்தின் பரிந்துரையின் பேரில் ஏற்படுத்தப்பட்டது:

- 1. நரசிம்மன் ஆணையம்
- 2. வர்மா ஆணையம்
- 3. திவாரி ஆணையம்
- 4. சந்தானம் ஆணையம்

Options :

- 485584135421. 1
- 485584135422. 2
- 485584135423. 3
- 485584135424. 4

Question Number : 222 Question Id : 48558433857 Question Type : MCQ Option Shuffling : No Is Question Mandatory : No Calculator : None Response Time : N.A Think Time : N.A Minimum Instruction Time : 0

Correct Marks : 5 Wrong Marks : 1

Question Key Details :

Key	Value
Comprehension	MCQ

ADR methods are _____ when compared to conventional Judicial Procedure.

1. Speedier, Informal and cheaper
2. Speedier, formal and costly
3. Formal, cheaper and slow
4. Slow, cheaper and informal

Options :

485584135425. 1
485584135426. 2
485584135427. 3
485584135428. 4

Question Number : 222 Question Id : 48558433857 Question Type : MCQ Option Shuffling : No Is Question Mandatory : No Calculator : None Response Time : N.A Think Time : N.A Minimum Instruction Time : 0

Correct Marks : 5 Wrong Marks : 1

Question Key Details :

Key	Value
Comprehension	MCQ

வழக்கமான நீதித்துறை நடைமுறைகளுடன் ஒப்பிடும்போது ADR வழிமுறைகள் என்பது _____.

1. விரைவானது, முறையற்றது மற்றும் மலிவானது
2. விரைவானது, முறையானது மற்றும் செலவாகும்
3. முறையானது, மலிவானது மற்றும் மெதுவானது
4. மெதுவானது, மலிவானது மற்றும் முறையற்றது

Options :

485584135425. 1
485584135426. 2
485584135427. 3
485584135428. 4

Question Number : 223 Question Id : 48558433858 Question Type : MCQ Option Shuffling : No Is Question Mandatory : No Calculator : None Response Time : N.A Think Time : N.A Minimum Instruction Time : 0

Correct Marks : 5 Wrong Marks : 1

Question Key Details :

Key	Value
Comprehension	MCQ

The first Lok Adalat was held in India in Junagarh in Gujarat on:-

1. 14 March 1982
2. 15 March 1982
3. 14 May 1982
4. 15 April 1982

Options :

485584135429. 1
485584135430. 2
485584135431. 3
485584135432. 4

Question Number : 223 Question Id : 48558433858 Question Type : MCQ Option Shuffling : No Is Question Mandatory : No Calculator : None Response Time : N.A Think Time : N.A Minimum Instruction Time : 0

Correct Marks : 5 Wrong Marks : 1

Question Key Details :

Key	Value
Comprehension	MCQ

இந்தியாவில் குஜராத் மாநிலத்தில் அமைந்துள்ள ஜுனாகர்க்கில் எப்போது முதல் லோக் அதாலத் நடைபெற்றது?

1. 14 மார்ச் 1982
2. 15 மார்ச் 1982
3. 14 மே 1982
4. 15 ஏப்ரல் 1982

Options :

485584135429. 1
485584135430. 2
485584135431. 3
485584135432. 4

Question Number : 224 Question Id : 48558433859 Question Type : MCQ Option Shuffling : No Is Question Mandatory : No Calculator : None Response Time : N.A Think Time : N.A Minimum Instruction Time : 0

Correct Marks : 5 Wrong Marks : 1

Question Key Details :

Key	Value
Comprehension	MCQ

The Vedic age in India, witnessed specialised tribunal for settling disputes of family, community, tribe, caste and races.

Identify the name of the tribunal.

1. Kula
2. Shreni
3. Puga
4. Panchayat

Options :

485584135433. 1
485584135434. 2
485584135435. 3
485584135436. 4

Question Number : 224 Question Id : 48558433859 Question Type : MCQ Option Shuffling : No Is Question Mandatory : No Calculator : None Response Time : N.A Think Time : N.A Minimum Instruction Time : 0

Correct Marks : 5 Wrong Marks : 1

Question Key Details :

Key	Value
Comprehension	MCQ

இந்தியாவில் வேத காலத்தில், சாட்சியங்களை அடிப்படையாக வைத்து குடும்பம், சமுதாயம், பழங்குடி, சமூகம்/சாதி மற்றும் இனங்கள் தொடர்பான பிரச்சனைகளுக்கு தீர்வு வழங்க தீர்ப்பாயம் முறை நடைமுறையில் இருந்தது.

தீர்ப்பாயத்தின் பெயரைக் கண்டறியவும்.

1. குல
2. ஸ்ரெனி
3. புகா
4. பஞ்சாயத்து

Options :

485584135433. 1
485584135434. 2
485584135435. 3
485584135436. 4

Question Number : 225 Question Id : 48558433860 Question Type : MCQ Option Shuffling : No Is Question Mandatory : No Calculator : None Response Time : N.A Think Time : N.A Minimum Instruction Time : 0

Correct Marks : 5 Wrong Marks : 1

Question Key Details :

Key	Value
Comprehension	MCQ

According to Preamble of Indian Constitution secures to all its citizen:

- A. Secularism
- B. Justice
- C. Socialism
- D. Fraternity
- E. Sovereignty

Choose the correct answer from the options given below:

1. A, B only
2. B, D only
3. D, E only
4. A, C only

Options :

- 485584135437. 1
- 485584135438. 2
- 485584135439. 3
- 485584135440. 4

Question Number : 225 Question Id : 48558433860 Question Type : MCQ Option Shuffling : No Is Question Mandatory : No Calculator : None Response Time : N.A Think Time : N.A Minimum Instruction Time : 0

Correct Marks : 5 Wrong Marks : 1

Question Key Details :

Key	Value
Comprehension	MCQ

இந்திய அரசியலமைப்பு சாசனத்தின் முன்னுரைப்படி அதன் குடிமக்கள் அனைவருக்கும் இதை பாதுகாக்கிறது:

- A. மதச்சார்பின்மை
- B. நீதி
- C. சமூகத்தன்மை/சோசலிசம்
- D. சகோதரத்துவம்
- E. இறையாண்மை

கீழே தரப்பட்டுள்ள வாய்ப்புகளில் இருந்து சரியான விடையைத் தேர்ந்தெடுக்கவும்:

1. A, B மட்டும்
2. B, D மட்டும்
3. D, E மட்டும்
4. A, C மட்டும்

Options :

- 485584135437. 1
- 485584135438. 2
- 485584135439. 3

485584135440. 4

Question Number : 226 Question Id : 48558433861 Question Type : MCQ Option Shuffling : No Is Question Mandatory : No Calculator : None Response Time : N.A Think Time : N.A Minimum Instruction Time : 0

Correct Marks : 5 Wrong Marks : 1

Question Key Details :

Key	Value
Comprehension	MCQ

LAMP (Legislative Assistants to Members of Parliament) fellowship program, provides fellowship to law students interested in public policy. This (LAMP) program is run by:

1. Competition Commission of India
2. Bar Council of India
3. Securities and Exchange Board of India
4. PRS Legislative Research

Options :

- 485584135441. 1
- 485584135442. 2
- 485584135443. 3
- 485584135444. 4

Question Number : 226 Question Id : 48558433861 Question Type : MCQ Option Shuffling : No Is Question Mandatory : No Calculator : None Response Time : N.A Think Time : N.A Minimum Instruction Time : 0

Correct Marks : 5 Wrong Marks : 1

Question Key Details :

Key	Value
Comprehension	MCQ

LAMP (பாராளுமன்ற உறுப்பினர்களுக்கான சட்ட உதவியாளர்கள்) கூட்டுறவுத் திட்டம், பொதுக் கொள்கைகளில் ஆர்வமுள்ள சட்டம் பயிலும் மாணவர்களுக்கு கல்வி பயில உதவுகிறது. இந்த (LAMP) திட்டத்தை செயல்படுத்துவது:

1. இந்திய போட்டி ஆணையம்
2. இந்திய பார் கவுன்சில்
3. இந்தியாவின் பத்திரங்கள் மற்றும் பரிவர்த்தனை வாரியம்
4. PRS சட்ட ஆராய்ச்சி

Options :

- 485584135441. 1
- 485584135442. 2
- 485584135443. 3
- 485584135444. 4

Question Number : 227 Question Id : 48558433862 Question Type : MCQ Option Shuffling : No Is Question Mandatory : No Calculator : None Response Time : N.A Think Time : N.A Minimum Instruction Time : 0

Correct Marks : 5 Wrong Marks : 1

Question Key Details :

Key	Value
Comprehension	MCQ

In 1987, the first National Law School of India was set up in:

1. Jodhpur
2. Kolkata
3. Bangalore
4. Patna

Options :

485584135445. 1
 485584135446. 2
 485584135447. 3
 485584135448. 4

Question Number : 227 Question Id : 48558433862 Question Type : MCQ Option Shuffling : No Is Question Mandatory : No Calculator : None Response Time : N.A Think Time : N.A Minimum Instruction Time : 0

Correct Marks : 5 Wrong Marks : 1

Question Key Details :

Key	Value
Comprehension	MCQ

1987 ஆம் ஆண்டில், இந்தியாவின் முதல் தேசிய சட்டக் கல்லூரி இங்கு அமைக்கப்பட்டது:

1. ஜோத்பூர்
2. கொல்கத்தா
3. பெங்களூரு
4. பாட்னா

Options :

485584135445. 1
 485584135446. 2
 485584135447. 3
 485584135448. 4

Question Number : 228 Question Id : 48558433863 Question Type : MCQ Option Shuffling : No Is Question Mandatory : No Calculator : None Response Time : N.A Think Time : N.A Minimum Instruction Time : 0

Correct Marks : 5 Wrong Marks : 1

Question Key Details :

Key	Value
Comprehension	MCQ

Women were included in the legal profession after the enactment of _____.

1. Advocates Act, 1961
2. Legal Practitioners (Women) Act, 1923
3. Government of India Act, 1923
4. Legal Practitioners Act, 1846

Options :

485584135449. 1
485584135450. 2
485584135451. 3
485584135452. 4

Question Number : 228 Question Id : 48558433863 Question Type : MCQ Option Shuffling : No Is Question Mandatory : No Calculator : None Response Time : N.A Think Time : N.A Minimum Instruction Time : 0

Correct Marks : 5 Wrong Marks : 1

Question Key Details :

Key	Value
Comprehension	MCQ

_____ இயற்றப்பட்ட பிறகு பெண்களும் சட்ட வல்லுநர் தொழிலில் சேர்த்துக்கொள்ளப்பட்டனர்.

1. வழக்கறிஞர்கள் சட்டம், 1961
2. சட்ட தொழில்செய்பவர்கள்/பயிற்சிசெய்பவர்கள் (பெண்கள்) சட்டம், 1923
3. இந்திய அரசுச் சட்டம், 1923
4. சட்டத் தொழில்செய்பவர்கள் சட்டம், 1846

Options :

485584135449. 1
485584135450. 2
485584135451. 3
485584135452. 4

Question Number : 229 Question Id : 48558433864 Question Type : MCQ Option Shuffling : No Is Question Mandatory : No Calculator : None Response Time : N.A Think Time : N.A Minimum Instruction Time : 0

Correct Marks : 5 Wrong Marks : 1

Question Key Details :

Key	Value
Comprehension	MCQ

Arrange the below mentioned incidents in the correct sequence leading to liberalization of the legal profession:

- A. Madras HC's decision permitting lawyers to practice in India on a 'Fly in and fly out' basis
- B. Amendment in Advocate Act for preparing a level playing field for Indian Lawyers
- C. Signing of WTO Treaty by Government of India
- D. Judgment of Bombay HC that foreign law firms could not be permitted to set up liaison office in India
- E. Resolution passed by Bar Council of India opposing the opening up of legal profession to foreign lawyers

Choose the correct answer from the options given below:

- 1. C - B - E - D - A
- 2. A - C - D - E - B
- 3. D - B - E - C - A
- 4. A - C - B - E - D

Options :

- 485584135453. 1
- 485584135454. 2
- 485584135455. 3
- 485584135456. 4

Question Number : 229 Question Id : 48558433864 Question Type : MCQ Option Shuffling : No Is Question Mandatory : No Calculator : None Response Time : N.A Think Time : N.A Minimum Instruction Time : 0

Correct Marks : 5 Wrong Marks : 1

Question Key Details :

Key	Value
Comprehension	MCQ

பின்வரும் நிகழ்வுகளில் சட்டத் தொழில் மேற்கொள்வதில் தாராளமயமாக்கல் தொடர்பான நிகழ்வுகளை சரியான வரிசையில் அமைக்கவும்:

- A. இந்தியாவில் வழக்கறிஞர்கள் 'பிளை இன் மற்றும் பிளை அவுட்' (Fly in and fly out) அடிப்படையில் பணிபுரியும் வகையில் மெட்ராஸ் HC முடிவெடுத்தது
- B. இந்திய வழக்கறிஞர்களுக்கான சட்டக் களத்தை தயாரிப்பதற்கான வழக்கறிஞர் சட்டத்தில் திருத்தம்
- C. இந்திய அரசாங்கம் WTO உடன்படிக்கையில் கையெழுத்திட்டது
- D. பம்பாய் HC தனது தீர்ப்பில் வெளிநாட்டு சட்ட நிறுவனங்கள் தங்கள் தொடர்பு அலுவலகங்களை இந்தியாவில் அமைக்கக்கூடாது என குறிப்பிட்டுள்ளது
- E. வெளிநாட்டு வழக்கறிஞர்களுக்கு சட்ட தொழில் புரிய அனுமதி வழங்குவதை எதிர்த்து இந்திய பார் கவுன்சிலின் தீர்மானம்

கீழே தரப்பட்டுள்ள வாய்ப்புகளில் இருந்து சரியான விடையைத் தேர்ந்தெடுக்கவும்:

1. C - B - E - D - A
2. A - C - D - E - B
3. D - B - E - C - A
4. A - C - B - E - D

Options :

485584135453. 1
485584135454. 2
485584135455. 3
485584135456. 4

Question Number : 230 Question Id : 48558433865 Question Type : MCQ Option Shuffling : No Is Question Mandatory : No Calculator : None Response Time : N.A Think Time : N.A Minimum Instruction Time : 0

Correct Marks : 5 Wrong Marks : 1

Question Key Details :

Key	Value
Comprehension	MCQ

Match List I with List II

LIST I Countries		LIST II Regulation/Restriction on Advertisement	
A.	USA	I.	Bar Council of India Rules
B.	Malayasia	II.	Model Rules of Professional Conduct
C.	India	III.	Legal Profession (Publicity Rules) 2001
D.	Hongkong	IV.	Forbidden to advertise on television, radio and in cinemas

Choose the correct answer from the options given below:

1. A-I, B-II, C-IV, D-III
2. A-II, B-III, C-I, D-IV
3. A-III, B-IV, C-II, D-I
4. A-IV, B-I, C-III, D-II

Options :

485584135457. 1
485584135458. 2
485584135459. 3
485584135460. 4

Question Number : 230 Question Id : 48558433865 Question Type : MCQ Option Shuffling : No Is Question Mandatory : No Calculator : None Response Time : N.A Think Time : N.A Minimum Instruction Time : 0

Correct Marks : 5 Wrong Marks : 1

Question Key Details :

Key	Value
Comprehension	MCQ

பட்டியல் I ஐ பட்டியல் II உடன் பொருத்துக

பட்டியல் I நாடுகள்	பட்டியல் II விளம்பரங்கள் மீது ஒழுக்குமுறை/ கட்டுப்பாடுகள்
A. USA	I. இந்திய பார் கவுன்சில் விதிகள்
B. மலேசியா	II. தொழில்முறை நடத்தைக்கான மாதிரி விதிகள்
C. இந்தியா	III. சட்டத் தொழில் (விளம்பர விதிகள்) 2001
D. ஹாங்காங்	IV. தொலைக்காட்சி, வானொலி/ ரேடியோ மற்றும் சினிமா/ திரைப்படங்களில் விளம்பரம் செய்வதற்கான தடை

கீழே தரப்பட்டுள்ள வாய்ப்புகளில் இருந்து சரியான விடையைத் தேர்ந்தெடுக்கவும்:

1. A-I, B-II, C-IV, D-III
2. A-II, B-III, C-I, D-IV
3. A-III, B-IV, C-II, D-I
4. A-IV, B-I, C-III, D-II

Options :

485584135457. 1
485584135458. 2
485584135459. 3
485584135460. 4

**Question Number : 231 Question Id : 48558433866 Question Type : MCQ Option Shuffling : No Is Question Mandatory :
No Calculator : None Response Time : N.A Think Time : N.A Minimum Instruction Time : 0**

Correct Marks : 5 Wrong Marks : 1

Question Key Details :

Key	Value
Comprehension	MCQ

Who among the following are allowed to practice law in India after the Advocates Act 1961?

- A. Barristers
- B. Advocates
- C. Advocate on Record
- D. Attorney General of India
- E. Pleaders

Choose the correct answer from the options given below:

1. A, B only
2. B, C only
3. C, D only
4. D, E only

Options :

- 485584135461. 1
- 485584135462. 2
- 485584135463. 3
- 485584135464. 4

Question Number : 231 Question Id : 48558433866 Question Type : MCQ Option Shuffling : No Is Question Mandatory : No Calculator : None Response Time : N.A Think Time : N.A Minimum Instruction Time : 0

Correct Marks : 5 Wrong Marks : 1

Question Key Details :

Key	Value
Comprehension	MCQ

வழக்கறிஞர்கள் சட்டம் 1961 கொண்டுவரப்பட்ட பிறகு பின்வருபவர்களுள் யார் இந்தியாவில் வழக்கறிஞர் தொழில் செய்ய அனுமதிக்கப்படுகிறார்கள்?

- A. பாரிஸ்டர்கள்
- B. வழக்கறிஞர்கள்
- C. பதிவேட்டில் உள்ள வழக்கறிஞர்
- D. இந்தியாவின் அட்டர்னி ஜெனரல்
- E. வாதிக்கர்கள்

கீழே தரப்பட்டுள்ள வாய்ப்புகளில் இருந்து சரியான விடையைத் தேர்ந்தெடுக்கவும்:

1. A, B மட்டும்
2. B, C மட்டும்
3. C, D மட்டும்
4. D, E மட்டும்

Options :

- 485584135461. 1
- 485584135462. 2
- 485584135463. 3

Question Number : 232 Question Id : 48558433867 Question Type : MCQ Option Shuffling : No Is Question Mandatory : No Calculator : None Response Time : N.A Think Time : N.A Minimum Instruction Time : 0

Correct Marks : 5 Wrong Marks : 1

Question Key Details :

Key	Value
Comprehension	MCQ

Match List I with List II

LIST I		LIST II	
A.	14th Law Commission Report	I.	India became obliged to introduce free legal aid in domestic legislation
B.	Committee on Judicature	II.	Lok Adalat to be setup to promote free legal Aid
C.	Legal Services Authorities Act, 1987	III.	Promoted the idea of free Legal Aid
D.	Signing of ICCPR in 1976	IV.	Framework to provide free Legal aid prepared

Choose the correct answer from the options given below:

1. A-IV, B-I, C-III, D-II
2. A-I, B-II, C-IV, D-III
3. A-II, B-III, C-I, D-IV
4. A-III, B-IV, C-II, D-I

Options :

485584135465. 1
485584135466. 2
485584135467. 3
485584135468. 4

Question Number : 232 Question Id : 48558433867 Question Type : MCQ Option Shuffling : No Is Question Mandatory : No Calculator : None Response Time : N.A Think Time : N.A Minimum Instruction Time : 0

Correct Marks : 5 Wrong Marks : 1

Question Key Details :

Key	Value
Comprehension	MCQ

பட்டியல் I ஐ பட்டியல் II உடன் பொருத்துக

பட்டியல் I		பட்டியல் II	
A.	14வது சட்ட ஆணைய அறிக்கை	I.	உள்நாட்டு சட்டத்தில் இலவச சட்ட உதவியை அறிமுகப்படுத்த இந்தியா கடமைப்பட்டுள்ளது
B.	நீதித்துறை குழு	II.	இலவச சட்ட உதவியை ஊக்குவிக்க லோக் அதாலத் அமைக்க வேண்டும்
C.	சட்ட சேவைகள் ஆணையச் சட்டம், 1987	III.	இலவச சட்ட உதவியை ஊக்குவித்தது
D.	1976 இல் ICCPR கையெழுத்து	IV.	இலவச சட்ட உதவி வழங்குவதற்கான கட்டமைப்பு தயாரிக்கப்பட்டது

கீழே தரப்பட்டுள்ள வாய்ப்புகளில் இருந்து சரியான விடையைத் தேர்ந்தெடுக்கவும்:

1. A-IV, B-I, C-III, D-II
2. A-I, B-II, C-IV, D-III
3. A-II, B-III, C-I, D-IV
4. A-III, B-IV, C-II, D-I

Options :

485584135465. 1
485584135466. 2
485584135467. 3
485584135468. 4

Question Number : 233 Question Id : 48558433868 Question Type : MCQ Option Shuffling : No Is Question Mandatory : No Calculator : None Response Time : N.A Think Time : N.A Minimum Instruction Time : 0

Correct Marks : 5 Wrong Marks : 1

Question Key Details :

Key	Value
Comprehension	MCQ

Which international organisation was initially originated as International Bank for Reconstruction and Development (IBRD)?

1. International Monetary Fund
2. World Bank
3. Reserve Bank
4. Monetary Bank of world

Options :

485584135469. 1
485584135470. 2

485584135471. 3

485584135472. 4

Question Number : 233 Question Id : 48558433868 Question Type : MCQ Option Shuffling : No Is Question Mandatory : No Calculator : None Response Time : N.A Think Time : N.A Minimum Instruction Time : 0

Correct Marks : 5 Wrong Marks : 1

Question Key Details :

Key	Value
Comprehension	MCQ

எந்த சர்வதேச அமைப்பு தொடக்கத்தில் புனரமைப்பு மற்றும் மேம்பாட்டிற்கான சர்வதேச வங்கி (IBRD) என்ற பெயரில் உருவாக்கப்பட்டது?

1. சர்வதேச நாணய நிதியம்
2. உலக வங்கி
3. ரிசர்வ் வங்கி
4. உலக நாணய வங்கி

Options :

485584135469. 1

485584135470. 2

485584135471. 3

485584135472. 4

Question Number : 234 Question Id : 48558433869 Question Type : MCQ Option Shuffling : No Is Question Mandatory : No Calculator : None Response Time : N.A Think Time : N.A Minimum Instruction Time : 0

Correct Marks : 5 Wrong Marks : 1

Question Key Details :

Key	Value
Comprehension	MCQ

Arrange the following in order of establishment

- A. ILO
- B. UNESCO
- C. IMF
- D. WHO

Choose the correct answer from the options given below:

1. A - C - B - D
2. D - A - B - C
3. C - A - B - D
4. A - B - C - D

Options :

485584135473. 1

485584135474. 2

485584135475. 3

485584135476. 4

Question Number : 234 Question Id : 48558433869 Question Type : MCQ Option Shuffling : No Is Question Mandatory : No Calculator : None Response Time : N.A Think Time : N.A Minimum Instruction Time : 0

Correct Marks : 5 Wrong Marks : 1

Question Key Details :

Key	Value
Comprehension	MCQ

பின்வரும் அமைப்புகளை அவை தொடங்கப்பட்ட வரிசையில் அமைக்கவும்

- A. ILO
- B. UNESCO (யுனெஸ்கோ)
- C. IMF
- D. WHO

கீழே தரப்பட்டுள்ள வாய்ப்புகளில் இருந்து சரியான விடையைத் தேர்ந்தெடுக்கவும்:

- 1. A - C - B - D
- 2. D - A - B - C
- 3. C - A - B - D
- 4. A - B - C - D

Options :

- 485584135473. 1
- 485584135474. 2
- 485584135475. 3
- 485584135476. 4

Question Number : 235 Question Id : 48558433870 Question Type : MCQ Option Shuffling : No Is Question Mandatory : No Calculator : None Response Time : N.A Think Time : N.A Minimum Instruction Time : 0

Correct Marks : 5 Wrong Marks : 1

Question Key Details :

Key	Value
Comprehension	MCQ

Which of the following is not a method by which a state may express its consent to be bound by a particular treaty:-

- 1. Consent by signature
- 2. Consent by exchange of instruments
- 3. Consent by verbal assurance of Head of State
- 4. Consent by ratification

Options :

- 485584135477. 1
- 485584135478. 2
- 485584135479. 3
- 485584135480. 4

Question Number : 235 Question Id : 48558433870 Question Type : MCQ Option Shuffling : No Is Question Mandatory : No Calculator : None Response Time : N.A Think Time : N.A Minimum Instruction Time : 0
Correct Marks : 5 Wrong Marks : 1
Question Key Details :

Key	Value
Comprehension	MCQ

பின்வருவனவற்றில் எது, குறிப்பிட்ட உடன்படிக்கைக்கு கட்டுப்படுவதற்கு ஒரு அரசு தனது சம்மதத்தை வெளிப்படுத்தும் முறை அல்ல:-

1. கையொப்பம் மூலமாக ஒப்புதல்
2. பொருட்கள் பரிமாற்றம் மூலம் ஒப்புதல்
3. மாநில தலைவரின் வாய்மொழி உறுதிமொழி மூலம் ஒப்புதல்
4. ஒப்புதல் செயல்முறை மூலம் ஒப்புதல்

Options :

485584135477. 1
485584135478. 2
485584135479. 3
485584135480. 4

Question Number : 236 Question Id : 48558433871 Question Type : MCQ Option Shuffling : No Is Question Mandatory : No Calculator : None Response Time : N.A Think Time : N.A Minimum Instruction Time : 0
Correct Marks : 5 Wrong Marks : 1
Question Key Details :

Key	Value
Comprehension	MCQ

Which of the following is a subsidiary source of International law according to Article 38(1) of ICJ statute?

1. International Conventions
2. International Customs
3. General Principles of International law
4. Teachings of most highly qualified Publicists

Options :

485584135481. 1
485584135482. 2
485584135483. 3
485584135484. 4

Question Number : 236 Question Id : 48558433871 Question Type : MCQ Option Shuffling : No Is Question Mandatory : No Calculator : None Response Time : N.A Think Time : N.A Minimum Instruction Time : 0
Correct Marks : 5 Wrong Marks : 1
Question Key Details :

Key	Value
Comprehension	MCQ

பின்வருவனவற்றில் எது ICJ சட்டத்தின் பிரிவு 38(1) படி சர்வதேச சட்டத்தின் துணை ஆதாரமாகும்?

1. சர்வதேச மரபுகள்
2. சர்வதேச பழக்கவழக்கங்கள்
3. சர்வதேச சட்டத்தின் பொதுவான கொள்கைகள்
4. மிகவும் தகுதிவாய்ந்த நபர்களின் அறிவுரைகள்

Options :

485584135481. 1
485584135482. 2
485584135483. 3
485584135484. 4

Question Number : 237 Question Id : 48558433872 Question Type : MCQ Option Shuffling : No Is Question Mandatory : No Calculator : None Response Time : N.A Think Time : N.A Minimum Instruction Time : 0

Correct Marks : 5 Wrong Marks : 1

Question Key Details :

Key	Value
Comprehension	MCQ

Choose the correct chronological order of the following

- A. The Hague conference focuses on wide array of aspects of private law.
- B. India adopted the UNCITRAL.
- C. ILO was set up after the war, as a part of Treaty of Versailles
- D. Human Rights Council is working for human rights issues.

Choose the correct answer from the options given below:

1. B, C, A, D
2. A, C, B, D
3. D, A, B, C
4. B, D, A, C

Options :

485584135485. 1
485584135486. 2
485584135487. 3
485584135488. 4

Question Number : 237 Question Id : 48558433872 Question Type : MCQ Option Shuffling : No Is Question Mandatory : No Calculator : None Response Time : N.A Think Time : N.A Minimum Instruction Time : 0

Correct Marks : 5 Wrong Marks : 1

Question Key Details :

Key	Value
Comprehension	MCQ

பின்வருவனவற்றை அவற்றின் காலவரிசைப்படி வரிசைப்படுத்துக.

- A. ஹாக் மாநாடு தனிப்பட்ட சட்டங்களில் பரந்த அளவில் கவனம் செலுத்துகிறது.
- B. இந்தியா UNCITRAL ஐ தழுவியது.
- C. ILO என்பது போருக்குப் பிறகு, வெர்சல்லிஸ் ஒப்பந்தத்தின் ஒரு பகுதியாக ஏற்படுத்தப்பட்டது
- D. மனித உரிமைகள் ஆணையம் மனித உரிமைகள் தொடர்பான பிரச்சனைகளை கையாள்கிறது.

கீழே தரப்பட்டுள்ள வாய்ப்புகளில் இருந்து சரியான விடையைத் தேர்ந்தெடுக்கவும்:

1. B, C, A, D
2. A, C, B, D
3. D, A, B, C
4. B, D, A, C

Options :

485584135485. 1
485584135486. 2
485584135487. 3
485584135488. 4

Question Number : 238 Question Id : 48558433873 Question Type : MCQ Option Shuffling : No Is Question Mandatory : No Calculator : None Response Time : N.A Think Time : N.A Minimum Instruction Time : 0

Correct Marks : 5 Wrong Marks : 1

Question Key Details :

Key	Value
Comprehension	MCQ

Article 59 of the statute of the ICJ states that except on parties to the dispute the decision of ICJ is

1. Not binding
2. binding on all states
3. based on consent of states
4. binding on Security Council

Options :

485584135489. 1
485584135490. 2
485584135491. 3
485584135492. 4

Question Number : 238 Question Id : 48558433873 Question Type : MCQ Option Shuffling : No Is Question Mandatory : No Calculator : None Response Time : N.A Think Time : N.A Minimum Instruction Time : 0

Correct Marks : 5 Wrong Marks : 1

Question Key Details :

Key	Value
-----	-------

ICJ இன் சட்டத்தின் பிரிவு 59 சர்ச்சைக்குரிய தரப்பினர் தவிர ICJ இன் முடிவு இவ்வாறு குறிப்பிடுகிறது

1. பிணைக்கப்படவில்லை
2. அனைத்து நாடுகளையும் கட்டுப்படுத்துகிறது
3. நாடுகளின் ஒப்புதல் அடிப்படையில்
4. பாதுகாப்பு கவுன்சிலின் பிணைப்பு

Options :

485584135489. 1
485584135490. 2
485584135491. 3
485584135492. 4

Question Number : 239 Question Id : 48558433874 Question Type : MCQ Option Shuffling : No Is Question Mandatory : No Calculator : None Response Time : N.A Think Time : N.A Minimum Instruction Time : 0

Correct Marks : 5 Wrong Marks : 1

Question Key Details :

Key	Value
Comprehension	MCQ

Match List I with List II

LIST I		LIST II	
A.	<i>Injuria Sine Damnum</i>	I.	Where there is right there is remedy
B.	<i>Bona fide</i>	II.	Let the buyer beware
C.	<i>Caveat Emptor</i>	III.	Injury without damage
D.	<i>Ubi Jus Ibi Remedium</i>	IV.	Good faith

Choose the correct answer from the options given below:

1. A-III, B-IV, C-II, D-I
2. A-I, B-II, C-III, D-IV
3. A-IV, B-III, C-I, D-II
4. A-I, B-IV, C-II, D-III

Options :

485584135493. 1
485584135494. 2
485584135495. 3
485584135496. 4

Question Number : 239 Question Id : 48558433874 Question Type : MCQ Option Shuffling : No Is Question Mandatory : No Calculator : None Response Time : N.A Think Time : N.A Minimum Instruction Time : 0

Correct Marks : 5 Wrong Marks : 1

Question Key Details :

Key	Value

பட்டியல் I ஐ பட்டியல் II உடன் பொருத்துக

பட்டியல் I	பட்டியல் II
A. இஞ்சுரியா சைன் டம்னம்	I. எங்கு உரிமை உள்ளதோ அங்கு தீர்வு இருக்கும்
B. போன பைடு	II. வாங்குபவர் கவனமாக இருக்க வேண்டும்
C. கேவியேட் எம்ப்ளர்	III. பாதிப்பு இல்லாமல் காயம்
D. உபி ஜூஸ் இபி ரெமிடியம்	IV. நல் நம்பிக்கை

கீழே தரப்பட்டுள்ள வாய்ப்புகளில் இருந்து சரியான விடையைத் தேர்ந்தெடுக்கவும்:

1. A-III, B-IV, C-II, D-I
2. A-I, B-II, C-III, D-IV
3. A-IV, B-III, C-I, D-II
4. A-I, B-IV, C-II, D-III

Options :

485584135493. 1
485584135494. 2
485584135495. 3
485584135496. 4

Question Number : 240 Question Id : 48558433875 Question Type : MCQ Option Shuffling : No Is Question Mandatory : No Calculator : None Response Time : N.A Think Time : N.A Minimum Instruction Time : 0

Correct Marks : 5 Wrong Marks : 1

Question Key Details :

Key	Value
Comprehension	MCQ

What is the meaning of the legal Maxim '*Ignorantia Facti Excusat- Ignorantia Juris Non Excusat*'

1. Ignorance of law is an excuse
2. Ignorance of law of fact is not an excuse
3. Ignorance of fact is an excuse but ignorance of law is not an excuse
4. Ignorance of fact is not an excuse

Options :

485584135497. 1
485584135498. 2
485584135499. 3
485584135500. 4

Question Number : 240 Question Id : 48558433875 Question Type : MCQ Option Shuffling : No Is Question Mandatory : No Calculator : None Response Time : N.A Think Time : N.A Minimum Instruction Time : 0

Correct Marks : 5 Wrong Marks : 1

Question Key Details :

Key	Value
Comprehension	MCQ

சட்ட முதுமொழி '*Ignorantia Facti Excusata- Ignorantia Juris Non Excusata*' என்பதன் பொருள்

1. சட்டம் அறியாமை ஒரு சாக்கு
2. சட்டத்தின் உண்மை அறியாமை ஒரு சாக்கு அல்ல
3. உண்மை அறியாமை ஒரு சாக்கு ஆனால் சட்டம் அறியாமை ஒரு சாக்கு அல்ல
4. உண்மை அறியாமை ஒரு சாக்கு அல்ல

Options :

485584135497. 1
485584135498. 2
485584135499. 3
485584135500. 4

Sub-Section Number :

2

Sub-Section Id :

4855842432

Question Shuffling Allowed :

No

Is Section Default? :

null

Question Number : 241 Question Id : 48558433876 Question Type : MCQ Option Shuffling : No Is Question Mandatory : No Calculator : None Response Time : N.A Think Time : N.A Minimum Instruction Time : 0

Correct Marks : 5 Wrong Marks : 1

Question Key Details :

Key	Value
Comprehension	Comp1

Read the passage and answer the following questions:-

"In 2010, the National Legal Services Authority of India (NALSA) adopted the National Legal Service Authority (Free and Competent Legal Services) Regulations in exercise of its power under Section 29 of Legal Service Authorities Act, 1987. The regulations are applicable to Legal Service Committees of the Supreme Court, High Courts, the States, districts and taluks. The legal service institution is vested with authority to invite applications from legal practitioners with requisite experience to indicate the type of cases they are entrusted with."

To be part of panel of lawyers to provide legal aid, the practioner should have

1. 3 or more years experience at bar
2. less than 3 years experience at bar
3. 5 years experience at bar
4. 10 years experience at bar

Options :

485584135501. 1

485584135502. 2

485584135503. 3

485584135504. 4

Question Number : 241 Question Id : 48558433876 Question Type : MCQ Option Shuffling : No Is Question Mandatory : No Calculator : None Response Time : N.A Think Time : N.A Minimum Instruction Time : 0

Correct Marks : 5 Wrong Marks : 1

Question Key Details :

Key	Value
Comprehension	Comp1

பின்வரும் பத்தியைப் படித்து கொடுக்கப்பட்டுள்ள கேள்விகளுக்கு விடையளிக்கவும் (41-45):

"2010 இல், இந்திய தேசிய சட்ட சேவைகள் ஆணையம் (NALSA) சட்ட சேவைகள் அதிகார சட்டம், 1987, பிரிவு 29 இன் கீழ் அதன் அதிகாரத்தைப் பயன்படுத்தி தேசிய சட்ட சேவை அதிகார (இலவச மற்றும் திறமையான சட்ட சேவைகள்) ஒழுங்குமுறைகளை ஏற்றுக்கொண்டது. இந்த ஒழுங்குமுறைகள் உச்ச நீதிமன்றம், உயர் நீதிமன்றம், மாநிலங்கள், மாவட்டங்கள் மற்றும் தாலுக்காக்கள் ஆகியவற்றின் சட்ட சேவை ஆணையங்களுக்குப் பொருந்துகிறது. சட்ட சேவை நிறுவன அதிகார அமைப்பு அவர்கள் ஏற்று நடத்திய வழக்குகளின் வகையை குறிப்பிட போதுமான அனுபவத்துடன் சட்ட தொழில் புரிபவர்களிடமிருந்து விண்ணப்பங்களை வரவேற்கிறது."

இலவச சட்ட உதவியை வழங்கும் குழுவில் இடம்பெற, சட்ட வல்லுநர்/வழக்கறிஞர் _____ கொண்டிருக்க வேண்டும்.

1. பார் கவுன்சிலில் 3 அல்லது அதற்குமேற்பட்ட ஆண்டுகள் அனுபவம்
2. பார் கவுன்சிலில் 3 ஆண்டுகளுக்கும் குறைவான அனுபவம்
3. பார் கவுன்சிலில் 5 ஆண்டுகள் அனுபவம்
4. பார் கவுன்சிலில் 10 ஆண்டுகள் அனுபவம்

Options :

485584135501. 1

485584135502. 2

485584135503. 3

485584135504. 4

Question Number : 242 Question Id : 48558433877 Question Type : MCQ Option Shuffling : No Is Question Mandatory : No Calculator : None Response Time : N.A Think Time : N.A Minimum Instruction Time : 0

Correct Marks : 5 Wrong Marks : 1

Question Key Details :

Key	Value
Comprehension	Comp1

Read the passage and answer the following questions:-

"In 2010, the National Legal Services Authority of India (NALSA) adopted the National Legal Service Authority (Free and Competent Legal Services) Regulations in exercise of its power under Section 29 of Legal Service Authorities Act, 1987. The regulations are applicable to Legal Service Committees of the Supreme Court, High Courts, the States, districts and taluks. The legal service institution is vested with authority to invite applications from legal practitioners with requisite experience to indicate the type of cases they are entrusted with."

Panel of legal aid lawyers is reconstituted

1. every year
2. every three years
3. every 5 years
4. every 2 years

Options :

485584135505. 1
485584135506. 2
485584135507. 3
485584135508. 4

Question Number : 242 Question Id : 48558433877 Question Type : MCQ Option Shuffling : No Is Question Mandatory : No Calculator : None Response Time : N.A Think Time : N.A Minimum Instruction Time : 0

Correct Marks : 5 Wrong Marks : 1

Question Key Details :

Key	Value
Comprehension	Comp1

பின்வரும் பத்தியைப் படித்து கொடுக்கப்பட்டுள்ள கேள்விகளுக்கு விடையளிக்கவும் (41-45):

"2010 இல், இந்திய தேசிய சட்ட சேவைகள் ஆணையம் (NALSA) சட்ட சேவைகள் அதிகார சட்டம், 1987, பிரிவு 29 இன் கீழ் அதன் அதிகாரத்தைப் பயன்படுத்தி தேசிய சட்ட சேவை அதிகார (இலவச மற்றும் திறமையான சட்ட சேவைகள்) ஒழுங்குமுறைகளை ஏற்றுக்கொண்டது. இந்த ஒழுங்குமுறைகள் உச்ச நீதிமன்றம், உயர் நீதிமன்றம், மாநிலங்கள், மாவட்டங்கள் மற்றும் தாலுக்காக்கள் ஆகியவற்றின் சட்ட சேவை ஆணையங்களுக்குப் பொருந்துகிறது. சட்ட சேவை நிறுவன அதிகார அமைப்பு அவர்கள் ஏற்று நடத்திய வழக்குகளின் வகையை குறிப்பிட போதுமான அனுபவத்துடன் சட்ட தொழில் புரிபவர்களிடமிருந்து விண்ணப்பங்களை வரவேற்கிறது."

சட்ட உதவிகள் வழங்கும் வழக்கறிஞர்கள் குழு _____ ஒருமுறை மாற்றியமைக்கப்பட வேண்டும்

1. ஒவ்வொரு ஆண்டும்
2. ஒவ்வொரு மூன்று ஆண்டுகளுக்கும்
3. ஒவ்வொரு 5 ஆண்டுகளுக்கும்
4. ஒவ்வொரு 2 ஆண்டுகளுக்கும்

Options :

485584135505. 1
485584135506. 2
485584135507. 3
485584135508. 4

Question Number : 243 Question Id : 48558433878 Question Type : MCQ Option Shuffling : No Is Question Mandatory : No Calculator : None Response Time : N.A Think Time : N.A Minimum Instruction Time : 0

Correct Marks : 5 Wrong Marks : 1

Question Key Details :

Key	Value
Comprehension	Comp1

Read the passage and answer the following questions:-

"In 2010, the National Legal Services Authority of India (NALSA) adopted the National Legal Service Authority (Free and Competent Legal Services) Regulations in exercise of its power under Section 29 of Legal Service Authorities Act, 1987. The regulations are applicable to Legal Service Committees of the Supreme Court, High Courts, the States, districts and taluks. The legal service institution is vested with authority to invite applications from legal practitioners with requisite experience to indicate the type of cases they are entrusted with."

For legal aid, services of senior lawyers can be availed only in

1. Murder cases
2. where there is threat to life and liberty of the applicant
3. financial matter
4. court martial

Options :

485584135509. 1
485584135510. 2
485584135511. 3
485584135512. 4

Question Number : 243 Question Id : 48558433878 Question Type : MCQ Option Shuffling : No Is Question Mandatory : No Calculator : None Response Time : N.A Think Time : N.A Minimum Instruction Time : 0

Correct Marks : 5 Wrong Marks : 1

Question Key Details :

Key	Value
Comprehension	Compl

பின்வரும் பத்தியைப் படித்து கொடுக்கப்பட்டுள்ள கேள்விகளுக்கு விடையளிக்கவும் (41-45):

"2010 இல், இந்திய தேசிய சட்ட சேவைகள் ஆணையம் (NALSA) சட்ட சேவைகள் அதிகார சட்டம், 1987, பிரிவு 29 இன் கீழ் அதன் அதிகாரத்தைப் பயன்படுத்தி தேசிய சட்ட சேவை அதிகார (இலவச மற்றும் திறமையான சட்ட சேவைகள்) ஒழுங்குமுறைகளை ஏற்றுக்கொண்டது. இந்த ஒழுங்குமுறைகள் உச்ச நீதிமன்றம், உயர் நீதிமன்றம், மாநிலங்கள், மாவட்டங்கள் மற்றும் தாலுக்காக்கள் ஆகியவற்றின் சட்ட சேவை ஆணையங்களுக்குப் பொருந்துகிறது. சட்ட சேவை நிறுவன அதிகார அமைப்பு அவர்கள் ஏற்று நடத்திய வழக்குகளின் வகையை குறிப்பிட போதுமான அனுபவத்துடன் சட்ட தொழில் புரிபவர்களிடமிருந்து விண்ணப்பங்களை வரவேற்கிறது."

சட்ட உதவிக்கு, மூத்த வழக்கறிஞர்களின் சேவைகள் இதில் மட்டும் கணக்கில் கொள்ளப்படும்

1. கொலை வழக்குகளில்
2. விண்ணப்பதாரரின் உயிர் மற்றும் சுதந்திரத்திற்கு ஆபத்து
3. நிதி சம்பந்தப்பட்டவை
4. தற்காப்பு நீதிமன்றம்

Options :

485584135509. 1

485584135510. 2

485584135511. 3

485584135512. 4

Question Number : 244 Question Id : 48558433879 Question Type : MCQ Option Shuffling : No Is Question Mandatory : No Calculator : None Response Time : N.A Think Time : N.A Minimum Instruction Time : 0

Correct Marks : 5 Wrong Marks : 1

Question Key Details :

Key	Value
Comprehension	Compl

Read the passage and answer the following questions:-

"In 2010, the National Legal Services Authority of India (NALSA) adopted the National Legal Service Authority (Free and Competent Legal Services) Regulations in exercise of its power under Section 29 of Legal Service Authorities Act, 1987. The regulations are applicable to Legal Service Committees of the Supreme Court, High Courts, the States, districts and taluks. The legal service institution is vested with authority to invite applications from legal practitioners with requisite experience to indicate the type of cases they are entrusted with."

Panel lawyers are paid fee in accordance with

1. State regulations
2. BCI norms
3. Central government scale
4. UGC norms

Options :

485584135513. 1
485584135514. 2
485584135515. 3
485584135516. 4

Question Number : 244 Question Id : 48558433879 Question Type : MCQ Option Shuffling : No Is Question Mandatory : No Calculator : None Response Time : N.A Think Time : N.A Minimum Instruction Time : 0

Correct Marks : 5 Wrong Marks : 1

Question Key Details :

Key	Value
Comprehension	Comp1

பின்வரும் பத்தியைப் படித்து கொடுக்கப்பட்டுள்ள கேள்விகளுக்கு விடையளிக்கவும் (41-45):

"2010 இல், இந்திய தேசிய சட்ட சேவைகள் ஆணையம் (NALSA) சட்ட சேவைகள் அதிகார சட்டம், 1987, பிரிவு 29 இன் கீழ் அதன் அதிகாரத்தைப் பயன்படுத்தி தேசிய சட்ட சேவை அதிகார (இலவச மற்றும் திறமையான சட்ட சேவைகள்) ஒழுங்குமுறைகளை ஏற்றுக்கொண்டது. இந்த ஒழுங்குமுறைகள் உச்ச நீதிமன்றம், உயர் நீதிமன்றம், மாநிலங்கள், மாவட்டங்கள் மற்றும் தாலுக்காக்கள் ஆகியவற்றின் சட்ட சேவை ஆணையங்களுக்குப் பொருந்துகிறது. சட்ட சேவை நிறுவன அதிகார அமைப்பு அவர்கள் ஏற்று நடத்திய வழக்குகளின் வகையை குறிப்பிட போதுமான அனுபவத்துடன் சட்ட தொழில் புரிபவர்களிடமிருந்து விண்ணப்பங்களை வரவேற்கிறது."

பேனல்/குழு வழக்கறிஞர்கள் இவ்வாறு ஊதியம் பெறுகிறார்கள்

1. மாநில ஒழுங்குமுறைப்படி
2. BCI விதிப்படி
3. மத்திய அரசு வரம்பின்படி
4. UGC விதிப்படி

Options :

485584135513. 1
485584135514. 2
485584135515. 3
485584135516. 4

Question Number : 245 Question Id : 48558433880 Question Type : MCQ Option Shuffling : No Is Question Mandatory : No Calculator : None Response Time : N.A Think Time : N.A Minimum Instruction Time : 0

Correct Marks : 5 Wrong Marks : 1

Question Key Details :

Key	Value
Comprehension	Comp1

Read the passage and answer the following questions:-

"In 2010, the National Legal Services Authority of India (NALSA) adopted the National Legal Service Authority (Free and Competent Legal Services) Regulations in exercise of its power under Section 29 of Legal Service Authorities Act, 1987. The regulations are applicable to Legal Service Committees of the Supreme Court, High Courts, the States, districts and taluks. The legal service institution is vested with authority to invite applications from legal practitioners with requisite experience to indicate the type of cases they are entrusted with."

Pre-litigation legal services include:

1. Legal education
2. Arbitration
3. Out of court settlement
4. appearance before judge

Options :

485584135517. 1
485584135518. 2
485584135519. 3
485584135520. 4

Question Number : 245 Question Id : 48558433880 Question Type : MCQ Option Shuffling : No Is Question Mandatory : No Calculator : None Response Time : N.A Think Time : N.A Minimum Instruction Time : 0

Correct Marks : 5 Wrong Marks : 1

Question Key Details :

Key	Value
Comprehension	Comp1

பின்வரும் பத்தியைப் படித்து கொடுக்கப்பட்டுள்ள கேள்விகளுக்கு விடையளிக்கவும் (41-45):

"2010 இல், இந்திய தேசிய சட்ட சேவைகள் ஆணையம் (NALSA) சட்ட சேவைகள் அதிகார சட்டம், 1987, பிரிவு 29 இன் கீழ் அதன் அதிகாரத்தைப் பயன்படுத்தி தேசிய சட்ட சேவை அதிகார (இலவச மற்றும் திறமையான சட்ட சேவைகள்) ஒழுங்குமுறைகளை ஏற்றுக்கொண்டது. இந்த ஒழுங்குமுறைகள் உச்ச நீதிமன்றம், உயர் நீதிமன்றம், மாநிலங்கள், மாவட்டங்கள் மற்றும் தாலுக்காக்கள் ஆகியவற்றின் சட்ட சேவை ஆணையங்களுக்குப் பொருந்துகிறது. சட்ட சேவை நிறுவன அதிகார அமைப்பு அவர்கள் ஏற்று நடத்திய வழக்குகளின் வகையை குறிப்பிட போதுமான அனுபவத்துடன் சட்ட தொழில் புரிபவர்களிடமிருந்து விண்ணப்பங்களை வரவேற்கிறது."

வழக்குக்கு முந்தைய சட்ட சேவைகளில் இது அடங்கும்:

1. சட்டக் கல்வி
2. நடுவர் மன்றம்
3. நீதிமன்றத்திற்கு வெளியே தீர்த்துக்கொள்ளுதல்
4. நீதிபதிக்கு முன்பாக ஆஜராதல்

Options :

485584135517. 1
485584135518. 2
485584135519. 3
485584135520. 4

Sub-Section Number : 3
Sub-Section Id : 4855842433
Question Shuffling Allowed : No
Is Section Default? : null

Question Number : 246 Question Id : 48558433881 Question Type : MCQ Option Shuffling : No Is Question Mandatory : No Calculator : None Response Time : N.A Think Time : N.A Minimum Instruction Time : 0

Correct Marks : 5 Wrong Marks : 1

Question Key Details :

Key	Value
Comprehension	Comp2

The quasi-judicial bodies typically are public administrative agencies under the realm of the executive branch and are largely bestowed with authority similar to courts. These bodies have the power to resolve disputes and also impose punishments. Examples of quasi-judicial institutions include, national and state human rights commissions, consumer redressal forums and commissions, income tax tribunals, and so on. Some of these bodies relating specifically to human rights institutions that include, the National Human Rights Commission, National Commission for Minorities, National Commission for Women, National Commission for Scheduled Castes and the National Commission for Scheduled Tribes. These commissions are independent or autonomous and transparent bodies that are created under specific legislations to promote and protect human rights; for example, the National and State Human Rights Commissions are governed by the Protection of Human Rights Act, 1993. National commissions have jurisdiction over the entire nation and the parallel state commission take matters of human rights violations from the respective states.

The functioning of Quasi judicial bodies is similar to

1. Parliament
2. Judges
3. Magistrate
4. Courts

Options :

485584135521. 1
485584135522. 2

485584135523. 3

485584135524. 4

Question Number : 246 Question Id : 48558433881 Question Type : MCQ Option Shuffling : No Is Question Mandatory : No Calculator : None Response Time : N.A Think Time : N.A Minimum Instruction Time : 0

Correct Marks : 5 Wrong Marks : 1

Question Key Details :

Key	Value
Comprehension	Comp2

பின்வரும் பத்தியைப் படித்து கொடுக்கப்பட்டுள்ள கேள்விகளுக்கு விடையளிக்கவும் (46-50):

குவாஸி-நீதித்துறை அமைப்புகள் பொதுவாக நிர்வாகக் கிளையின் அதிகாரத்திற்குக் கீழ் உள்ள பொது நிர்வாக ஆணையம்/ஏஜென்சி ஆகும். இது நீதிமன்றங்கள் போலவே அதிகாரங்களைக் கொண்டுள்ளது. இந்த அமைப்புகள் பிரச்சனைகளைத் தீர்க்கவும் தண்டனைகளை வழங்கவும் அதிகாரம் படைத்துள்ளன. உதாரணமாக குவாஸி-நீதித்துறை நிறுவனங்களில் தேசிய மற்றும் மாநில மனித உரிமைகள் ஆணையங்கள், நுகர்வோர் தீர்வு மன்றங்கள் மற்றும் கமிஷன், வருமான வரி தீர்ப்பாயங்கள் உள்ளிட்டவை உள்ளடங்கும். இவைகளில் சில அமைப்புகள் குறிப்பாக மனித உரிமை அமைப்புகளுடன் தொடர்புடையவை, அவைகளாவன, தேசிய மனித உரிமைகள் ஆணையம், தேசிய சிறுபான்மையினர் ஆணையம், தேசிய மகளிர் ஆணையம், தேசிய பட்டியலின ஆணையம் மற்றும் தேசிய பழங்குடியின ஆணையம். இந்த ஆணையங்கள் சுதந்திரமானவை அல்லது தன்னாட்சி அதிகாரம் பெற்றவை, மேலும் இவை வெளிப்படையான அமைப்புகளாகும். இவை குறிப்பிட்ட சட்ட விதிமுறைகளின் கீழ் மனித உரிமைகளை ஊக்குவிக்கவும் பாதுகாக்கவும் உருவாக்கப்பட்டுள்ளது; உதாரணமாக, தேசிய மற்றும் மாநில மனித உரிமைகள் ஆணையம் மனித உரிமைகள் பாதுகாப்புச் சட்டம், 1993 இன் படி நிர்வகிக்கப்படுகிறது. தேசிய ஆணையம் ஆணையம் நாடு முழுவதிலும் அதிகார வரம்பைக் கொண்டுள்ளது, அதே நேரத்தில் மாநில ஆணையம் அந்தந்த மாநிலங்களில் மட்டுமே அதிகார வரம்பைக் கொண்டுள்ளது.

குவாஸி நீதி அமைப்புகளின் செயல்பாடுகள் இதைப் போன்றதாகும்

1. பாராளுமன்றம்
2. நீதிபதிகள்
3. மாஜிஸ்திரேட்
4. நீதிமன்றங்கள்

Options :

485584135521. 1

485584135522. 2

485584135523. 3

485584135524. 4

Question Number : 247 Question Id : 48558433882 Question Type : MCQ Option Shuffling : No Is Question Mandatory : No Calculator : None Response Time : N.A Think Time : N.A Minimum Instruction Time : 0

Correct Marks : 5 Wrong Marks : 1

Question Key Details :

Key	Value
Comprehension	Comp2

The quasi-judicial bodies typically are public administrative agencies under the realm of the executive branch and are largely bestowed with authority similar to courts. These bodies have the power to resolve disputes and also impose punishments. Examples of quasi-judicial institutions include, national and state human rights commissions, consumer redressal forums and commissions, income tax tribunals, and so on. Some of these bodies relating specifically to human rights institutions that include, the National Human Rights Commission, National Commission for Minorities, National Commission for Women, National Commission for Scheduled Castes and the National Commission for Scheduled Tribes. These commissions are independent or autonomous and transparent bodies that are created under specific legislations to promote and protect human rights; for example, the National and State Human Rights Commissions are governed by the Protection of Human Rights Act, 1993. National commissions have jurisdiction over the entire nation and the parallel state commission take matters of human rights violations from the respective states.

Which one of the following is not a Quasi judicial body

1. Human Rights Commission
2. Consumer Forums
3. Income Tax Tribunals
4. Parliament

Options :

- 485584135525. 1
- 485584135526. 2
- 485584135527. 3
- 485584135528. 4

Question Number : 247 Question Id : 48558433882 Question Type : MCQ Option Shuffling : No Is Question Mandatory : No Calculator : None Response Time : N.A Think Time : N.A Minimum Instruction Time : 0

Correct Marks : 5 Wrong Marks : 1

Question Key Details :

Key	Value
Comprehension	Comp2

பின்வரும் பத்தியைப் படித்து கொடுக்கப்பட்டுள்ள கேள்விகளுக்கு விடையளிக்கவும் (46-50):

குவாஸி-நீதித்துறை அமைப்புகள் பொதுவாக நிர்வாகக் கிளையின் அதிகாரத்திற்குக் கீழ் உள்ள பொது நிர்வாக ஆணையம்/ஏஜென்சி ஆகும். இது நீதிமன்றங்கள் போலவே அதிகாரங்களைக் கொண்டுள்ளது. இந்த அமைப்புகள் பிரச்சனைகளைத் தீர்க்கவும் தண்டனைகளை வழங்கவும் அதிகாரம் படைத்துள்ளன. உதாரணமாக குவாஸி-நீதித்துறை நிறுவனங்களில் தேசிய மற்றும் மாநில மனித உரிமைகள் ஆணையங்கள், நுகர்வோர் தீர்வு மன்றங்கள் மற்றும் கமிஷன், வருமான வரி தீர்ப்பாயங்கள் உள்ளிட்டவை உள்ளடங்கும். இவைகளில் சில அமைப்புகள் குறிப்பாக மனித உரிமை அமைப்புகளுடன் தொடர்புடையவை, அவைகளாவன, தேசிய மனித உரிமைகள் ஆணையம், தேசிய சிறுபான்மையினர் ஆணையம், தேசிய மகளிர் ஆணையம், தேசிய பட்டியலின ஆணையம் மற்றும் தேசிய பழங்குடியின ஆணையம். இந்த ஆணையங்கள் சுதந்திரமானவை அல்லது தன்னாட்சி அதிகாரம் பெற்றவை, மேலும் இவை வெளிப்படையான அமைப்புகளாகும். இவை குறிப்பிட்ட சட்ட விதிமுறைகளின் கீழ் மனித உரிமைகளை ஊக்குவிக்கவும் பாதுகாக்கவும் உருவாக்கப்பட்டுள்ளது; உதாரணமாக, தேசிய மற்றும் மாநில மனித உரிமைகள் ஆணையம் மனித உரிமைகள் பாதுகாப்புச் சட்டம், 1993 இன் படி நிர்வகிக்கப்படுகிறது. தேசிய ஆணையம் ஆணையம் நாடு முழுவதிலும் அதிகார வரம்பைக் கொண்டுள்ளது, அதே நேரத்தில் மாநில ஆணையம் அந்தந்த மாநிலங்களில் மட்டுமே அதிகார வரம்பைக் கொண்டுள்ளது.

பின்வருபவனவற்றுள் எந்த ஒன்று குவாஸி நீதி அமைப்பு அல்ல.

1. மனித உரிமைகள் ஆணையம்
2. நுகர்வோர் அமைப்புகள்
3. வருமான வரி தீர்ப்பாயங்கள்
4. பாராளுமன்றம்

Options :

485584135525. 1
485584135526. 2
485584135527. 3
485584135528. 4

Question Number : 248 Question Id : 48558433883 Question Type : MCQ Option Shuffling : No Is Question Mandatory : No Calculator : None Response Time : N.A Think Time : N.A Minimum Instruction Time : 0

Correct Marks : 5 Wrong Marks : 1

Question Key Details :

Key	Value
Comprehension	Comp2

The quasi-judicial bodies typically are public administrative agencies under the realm of the executive branch and are largely bestowed with authority similar to courts. These bodies have the power to resolve disputes and also impose punishments. Examples of quasi-judicial institutions include, national and state human rights commissions, consumer redressal forums and commissions, income tax tribunals, and so on. Some of these bodies relating specifically to human rights institutions that include, the National Human Rights Commission, National Commission for Minorities, National Commission for Women, National Commission for Scheduled Castes and the National Commission for Scheduled Tribes. These commissions are independent or autonomous and transparent bodies that are created under specific legislations to promote and protect human rights; for example, the National and State Human Rights Commissions are governed by the Protection of Human Rights Act, 1993. National commissions have jurisdiction over the entire nation and the parallel state commission take matters of human rights violations from the respective states.

The National Human Rights Commission is enacted to protect

1. Geographical Rights
2. Human Rights
3. Patent Rights
4. Copyright Rights

Options :

- 485584135529. 1
- 485584135530. 2
- 485584135531. 3
- 485584135532. 4

Question Number : 248 Question Id : 48558433883 Question Type : MCQ Option Shuffling : No Is Question Mandatory : No Calculator : None Response Time : N.A Think Time : N.A Minimum Instruction Time : 0

Correct Marks : 5 Wrong Marks : 1

Question Key Details :

Key	Value
Comprehension	Comp2

பின்வரும் பத்தியைப் படித்து கொடுக்கப்பட்டுள்ள கேள்விகளுக்கு விடையளிக்கவும் (46-50):

குவாஸி-நீதித்துறை அமைப்புகள் பொதுவாக நிர்வாகக் கிளையின் அதிகாரத்திற்குக் கீழ் உள்ள பொது நிர்வாக ஆணையம்/ஏஜென்சி ஆகும். இது நீதிமன்றங்கள் போலவே அதிகாரங்களைக் கொண்டுள்ளது. இந்த அமைப்புகள் பிரச்சனைகளைத் தீர்க்கவும் தண்டனைகளை வழங்கவும் அதிகாரம் படைத்துள்ளன. உதாரணமாக குவாஸி-நீதித்துறை நிறுவனங்களில் தேசிய மற்றும் மாநில மனித உரிமைகள் ஆணையங்கள், நுகர்வோர் தீர்வு மன்றங்கள் மற்றும் கமிஷன், வருமான வரி தீர்ப்பாயங்கள் உள்ளிட்டவை உள்ளடங்கும். இவைகளில் சில அமைப்புகள் குறிப்பாக மனித உரிமை அமைப்புகளுடன் தொடர்புடையவை, அவைகளாவன, தேசிய மனித உரிமைகள் ஆணையம், தேசிய சிறுபான்மையினர் ஆணையம், தேசிய மகளிர் ஆணையம், தேசிய பட்டியலின ஆணையம் மற்றும் தேசிய பழங்குடியின ஆணையம். இந்த ஆணையங்கள் சுதந்திரமானவை அல்லது தன்னாட்சி அதிகாரம் பெற்றவை, மேலும் இவை வெளிப்படையான அமைப்புகளாகும். இவை குறிப்பிட்ட சட்ட விதிமுறைகளின் கீழ் மனித உரிமைகளை ஊக்குவிக்கவும் பாதுகாக்கவும் உருவாக்கப்பட்டுள்ளது; உதாரணமாக, தேசிய மற்றும் மாநில மனித உரிமைகள் ஆணையம் மனித உரிமைகள் பாதுகாப்புச் சட்டம், 1993 இன் படி நிர்வகிக்கப்படுகிறது. தேசிய ஆணையம் ஆணையம் நாடு முழுவதிலும் அதிகார வரம்பைக் கொண்டுள்ளது, அதே நேரத்தில் மாநில ஆணையம் அந்தந்த மாநிலங்களில் மட்டுமே அதிகார வரம்பைக் கொண்டுள்ளது.

தேசிய மனித உரிமைகள் ஆணையம் இதைப் பாதுகாக்கிறது:

1. புவியியல் ரீதியான உரிமைகள்
2. மனித உரிமைகள்
3. காப்புரிமைகள்
4. பதிப்புரிமைகள்

Options :

485584135529. 1
485584135530. 2
485584135531. 3
485584135532. 4

Question Number : 249 Question Id : 48558433884 Question Type : MCQ Option Shuffling : No Is Question Mandatory : No Calculator : None Response Time : N.A Think Time : N.A Minimum Instruction Time : 0

Correct Marks : 5 Wrong Marks : 1

Question Key Details :

Key	Value
Comprehension	Comp2

The quasi-judicial bodies typically are public administrative agencies under the realm of the executive branch and are largely bestowed with authority similar to courts. These bodies have the power to resolve disputes and also impose punishments. Examples of quasi-judicial institutions include, national and state human rights commissions, consumer redressal forums and commissions, income tax tribunals, and so on. Some of these bodies relating specifically to human rights institutions that include, the National Human Rights Commission, National Commission for Minorities, National Commission for Women, National Commission for Scheduled Castes and the National Commission for Scheduled Tribes. These commissions are independent or autonomous and transparent bodies that are created under specific legislations to promote and protect human rights; for example, the National and State Human Rights Commissions are governed by the Protection of Human Rights Act, 1993. National commissions have jurisdiction over the entire nation and the parallel state commission take matters of human rights violations from the respective states.

The State Human Rights Commission is subordinate to

1. Competition Commission of India
2. Supreme Court of India
3. High Court of the state
4. National Human Rights Commission

Options :

- 485584135533. 1
- 485584135534. 2
- 485584135535. 3
- 485584135536. 4

Question Number : 249 Question Id : 48558433884 Question Type : MCQ Option Shuffling : No Is Question Mandatory : No Calculator : None Response Time : N.A Think Time : N.A Minimum Instruction Time : 0

Correct Marks : 5 Wrong Marks : 1

Question Key Details :

Key	Value
Comprehension	Comp2

பின்வரும் பத்தியைப் படித்து கொடுக்கப்பட்டுள்ள கேள்விகளுக்கு விடையளிக்கவும் (46-50):

குவாஸி-நீதித்துறை அமைப்புகள் பொதுவாக நிர்வாகக் கிளையின் அதிகாரத்திற்குக் கீழ் உள்ள பொது நிர்வாக ஆணையம்/ஏஜென்சி ஆகும். இது நீதிமன்றங்கள் போலவே அதிகாரங்களைக் கொண்டுள்ளது. இந்த அமைப்புகள் பிரச்சனைகளைத் தீர்க்கவும் தண்டனைகளை வழங்கவும் அதிகாரம் படைத்துள்ளன. உதாரணமாக குவாஸி-நீதித்துறை நிறுவனங்களில் தேசிய மற்றும் மாநில மனித உரிமைகள் ஆணையங்கள், நுகர்வோர் தீர்வு மன்றங்கள் மற்றும் கமிஷன், வருமான வரி தீர்ப்பாயங்கள் உள்ளிட்டவை உள்ளடங்கும். இவைகளில் சில அமைப்புகள் குறிப்பாக மனித உரிமை அமைப்புகளுடன் தொடர்புடையவை, அவைகளாவன, தேசிய மனித உரிமைகள் ஆணையம், தேசிய சிறுபான்மையினர் ஆணையம், தேசிய மகளிர் ஆணையம், தேசிய பட்டியலின ஆணையம் மற்றும் தேசிய பழங்குடியின ஆணையம். இந்த ஆணையங்கள் சுதந்திரமானவை அல்லது தன்னாட்சி அதிகாரம் பெற்றவை, மேலும் இவை வெளிப்படையான அமைப்புகளாகும். இவை குறிப்பிட்ட சட்ட விதிமுறைகளின் கீழ் மனித உரிமைகளை ஊக்குவிக்கவும் பாதுகாக்கவும் உருவாக்கப்பட்டுள்ளது; உதாரணமாக, தேசிய மற்றும் மாநில மனித உரிமைகள் ஆணையம் மனித உரிமைகள் பாதுகாப்புச் சட்டம், 1993 இன் படி நிர்வகிக்கப்படுகிறது. தேசிய ஆணையம் ஆணையம் நாடு முழுவதிலும் அதிகார வரம்பைக் கொண்டுள்ளது, அதே நேரத்தில் மாநில ஆணையம் அந்தந்த மாநிலங்களில் மட்டுமே அதிகார வரம்பைக் கொண்டுள்ளது.

மாநில மனித உரிமைகள் ஆணையம் இதன் கீழ் இயங்கும் அமைப்பாகும்

1. இந்திய போட்டி ஆணையம்
2. இந்திய உச்ச நீதிமன்றம்
3. மாநில உயர் நீதிமன்றம்
4. தேசிய மனித உரிமைகள் ஆணையம்

Options :

485584135533. 1
485584135534. 2
485584135535. 3
485584135536. 4

Question Number : 250 Question Id : 48558433885 Question Type : MCQ Option Shuffling : No Is Question Mandatory : No Calculator : None Response Time : N.A Think Time : N.A Minimum Instruction Time : 0

Correct Marks : 5 Wrong Marks : 1

Question Key Details :

Key	Value
Comprehension	Comp2

The quasi-judicial bodies typically are public administrative agencies under the realm of the executive branch and are largely bestowed with authority similar to courts. These bodies have the power to resolve disputes and also impose punishments. Examples of quasi-judicial institutions include, national and state human rights commissions, consumer redressal forums and commissions, income tax tribunals, and so on. Some of these bodies relating specifically to human rights institutions that include, the National Human Rights Commission, National Commission for Minorities, National Commission for Women, National Commission for Scheduled Castes and the National Commission for Scheduled Tribes. These commissions are independent or autonomous and transparent bodies that are created under specific legislations to promote and protect human rights; for example, the National and State Human Rights Commissions are governed by the Protection of Human Rights Act, 1993. National commissions have jurisdiction over the entire nation and the parallel state commission take matters of human rights violations from the respective states.

The National and State Human Rights Commission are governed under _____.

1. Environment Protection Act, 1986
2. Protection of Human Rights Act, 1993
3. Consumer of Protection Act, 2019
4. Protection of Civil Rights Act, 1955

Options :

- 485584135537. 1
- 485584135538. 2
- 485584135539. 3
- 485584135540. 4

Question Number : 250 Question Id : 48558433885 Question Type : MCQ Option Shuffling : No Is Question Mandatory : No Calculator : None Response Time : N.A Think Time : N.A Minimum Instruction Time : 0

Correct Marks : 5 Wrong Marks : 1

Question Key Details :

Key	Value
Comprehension	Comp2

பின்வரும் பத்தியைப் படித்து கொடுக்கப்பட்டுள்ள கேள்விகளுக்கு விடையளிக்கவும் (46-50):

குவாஸி-நீதித்துறை அமைப்புகள் பொதுவாக நிர்வாகக் கிளையின் அதிகாரத்திற்குக் கீழ் உள்ள பொது நிர்வாக ஆணையம்/ஏஜென்சி ஆகும். இது நீதிமன்றங்கள் போலவே அதிகாரங்களைக் கொண்டுள்ளது. இந்த அமைப்புகள் பிரச்சனைகளைத் தீர்க்கவும் தண்டனைகளை வழங்கவும் அதிகாரம் படைத்துள்ளன. உதாரணமாக குவாஸி-நீதித்துறை நிறுவனங்களில் தேசிய மற்றும் மாநில மனித உரிமைகள் ஆணையங்கள், நுகர்வோர் தீர்வு மன்றங்கள் மற்றும் கமிஷன், வருமான வரி தீர்ப்பாயங்கள் உள்ளிட்டவை உள்ளடங்கும். இவைகளில் சில அமைப்புகள் குறிப்பாக மனித உரிமை அமைப்புகளுடன் தொடர்புடையவை, அவைகளாவன, தேசிய மனித உரிமைகள் ஆணையம், தேசிய சிறுபான்மையினர் ஆணையம், தேசிய மகளிர் ஆணையம், தேசிய பட்டியலின ஆணையம் மற்றும் தேசிய பழங்குடியின ஆணையம். இந்த ஆணையங்கள் சுதந்திரமானவை அல்லது தன்னாட்சி அதிகாரம் பெற்றவை, மேலும் இவை வெளிப்படையான அமைப்புகளாகும். இவை குறிப்பிட்ட சட்ட விதிமுறைகளின் கீழ் மனித உரிமைகளை ஊக்குவிக்கவும் பாதுகாக்கவும் உருவாக்கப்பட்டுள்ளது; உதாரணமாக, தேசிய மற்றும் மாநில மனித உரிமைகள் ஆணையம் மனித உரிமைகள் பாதுகாப்புச் சட்டம், 1993 இன் படி நிர்வகிக்கப்படுகிறது. தேசிய ஆணையம் ஆணையம் நாடு முழுவதிலும் அதிகார வரம்பைக் கொண்டுள்ளது, அதே நேரத்தில் மாநில ஆணையம் அந்தந்த மாநிலங்களில் மட்டுமே அதிகார வரம்பைக் கொண்டுள்ளது.

தேசிய மற்றும் மாநில மனித உரிமைகள் ஆணையம் _____ ஆல் நிர்வகிக்கப்படுகிறது.

1. சுற்றுச்சூழல் பாதுகாப்புச் சட்டம், 1986
2. மனித உரிமைகள் பாதுகாப்புச் சட்டம், 1993
3. நுகர்வோர் பாதுகாப்புச் சட்டம், 2019
4. சிவில் உரிமைகள் பாதுகாப்புச் சட்டம், 1955

Options :

485584135537. 1
485584135538. 2
485584135539. 3
485584135540. 4

Performing Arts

Group Number :	10
Group Id :	485584748
Group Maximum Duration :	45
Group Minimum Duration :	45
Show Attended Group? :	No
Edit Attended Group? :	No
Break time :	0

Group Marks : 200
Is this Group for Examiner? : No
Examiner permission : Cant View
Show Progress Bar? : No

Compulsory

Section Id : 485584862
Section Number : 1
Section type : Online
Mandatory or Optional : Mandatory
Number of Questions : 20
Number of Questions to be attempted : 20
Section Marks : 100
Enable Mark as Answered Mark for Review and Clear Response : Yes
Maximum Instruction Time : 0
Sub-Section Number : 1
Sub-Section Id : 4855842434
Question Shuffling Allowed : No
Is Section Default? : null

Question Number : 251 Question Id : 48558433616 Question Type : MCQ Option Shuffling : No Is Question Mandatory : No Calculator : None Response Time : N.A Think Time : N.A Minimum Instruction Time : 0

Correct Marks : 5 Wrong Marks : 1

Question Key Details :

Key	Value
Comprehension	Comp1

Read the paragraph and answer the following questions:

Raga has been manifested through Anibaddha and Nibaddha. Anibaddha refers to free extempore development of a raga. In ancient period, it was done under the concept of Alapti. Alapti is of two types - Ragalapti and Rupkalapti. alapti is governed by Svasthana. there are four types of Svasthana known as Prathama, Dvitya, Tritiya and Chaturtha Svasthana. Rupkalapti is done in two steps, that is, Pratigrahanika and Bhanjani. Bhanjani can further be done in two ways which are Sthaya Bhanjani and Rupak Bhanjani.

Anibaddha is :

1. A composition fixed to Tala
2. A free extempore development of a raga
3. A composition set to Teental
4. A development of a raga with Tanas set to Tala

Options :

485584134461. 1
485584134462. 2
485584134463. 3
485584134464. 4

Question Number : 251 Question Id : 48558433616 Question Type : MCQ Option Shuffling : No Is Question Mandatory : No Calculator : None Response Time : N.A Think Time : N.A Minimum Instruction Time : 0

Correct Marks : 5 Wrong Marks : 1

Question Key Details :

Key	Value
Comprehension	Comp1

பின்வரும் பத்தியைப் படித்து, பின்வரும் வினாக்களுக்கு விடையளிக்கவும்:

அனிபத்தா மற்றும் நிப்பத்தா என்பதன் மூலம் இராகமானது கையாளப்படுகிறது. அனிபத்தா என்பது இராகத்தின் சரளமான முன்னேற்பாடற்ற வளர்ச்சியைக் குறிக்கும். பண்டைய காலத்தில், ஆலப்தி எனும் கருத்துருவின் கீழ் இது செய்யப்பட்டது. ஆலப்தி இரு வகைப்படும், அவை இராகாலப்தி மற்றும் ரூப்காலப்தி. ஆலப்தி என்பது ஸ்வஸ்தானங்களால் ஆளப்படுகிறது. ப்ரத்மா, த்விதியா, த்ருதியா மற்றும் சதுர்த ஸ்வஸ்தானா என்று நான்கு வகை ஸ்வஸ்தானங்கள் உள்ளன. ரூப்காலப்தி இரு படிநிலைகளில் செய்யப்படுகிறது. அவையாவன, ப்ரதிக்ருஹனிகா மற்றும் பஞ்ஜனி. மேலும் பஞ்ஜனி என்பது ஸ்தாய பஞ்ஜனி மற்றும் ரூபக பஞ்ஜனி என்ற இரு வழிகளில் செய்யப்படுகின்றன.

அனிபத்தா என்பது:

1. தாளம் நிலையாக உள்ள இசைத்தொகுப்புகள்
2. இராகத்தின் சரளமானதொரு முன்னேற்பாடற்ற வளர்ச்சி
3. தீன்தாளத்தோடு அமைந்துள்ள இசைத் தொகுப்புகள்
4. தாளங்கள் தாளத்தோடு அமைந்துள்ள ராக ஆலாபனைகள்

Options :

485584134461. 1
485584134462. 2
485584134463. 3
485584134464. 4

Question Number : 252 Question Id : 48558433617 Question Type : MCQ Option Shuffling : No Is Question Mandatory : No Calculator : None Response Time : N.A Think Time : N.A Minimum Instruction Time : 0

Correct Marks : 5 Wrong Marks : 1

Question Key Details :

Key	Value
Comprehension	Comp1

Read the paragraph and answer the following questions:

Raga has been manifested through Anibaddha and Nibaddha. Anibaddha refers to free extempore development of a raga. In ancient period, it was done under the concept of Alapti. Alapti is of two types - Ragalapti and Rupkalapti. alapti is governed by Svasthana. there are four types of Svasthana known as Prathama, Dvitya, Tritiya and Chaturtha Svasthana. Rupkalapti is done in two steps, that is, Pratigrahanika and Bhanjani. Bhanjani can further be done in two ways which are Sthaya Bhanjani and Rupak Bhanjani.

How many varieties of Alapti are there?

1. 2
2. 4
3. 5
4. 7

Options :

485584134465. 1
485584134466. 2
485584134467. 3
485584134468. 4

Question Number : 252 Question Id : 48558433617 Question Type : MCQ Option Shuffling : No Is Question Mandatory : No Calculator : None Response Time : N.A Think Time : N.A Minimum Instruction Time : 0

Correct Marks : 5 Wrong Marks : 1

Question Key Details :

Key	Value
Comprehension	Comp1

பின்வரும் பத்தியைப் படித்து, பின்வரும் வினாக்களுக்கு விடையளிக்கவும்:

அனிபத்தா மற்றும் நிப்பத்தா என்பதன் மூலம் இராகமானது கையாளப்படுகிறது. அனிபத்தா என்பது இராகத்தின் சரளமான முன்னேற்பாடற்ற வளர்ச்சியைக் குறிக்கும். பண்டைய காலத்தில், ஆலப்தி எனும் கருத்துருவின் கீழ் இது செய்யப்பட்டது. ஆலப்தி இரு வகைப்படும், அவை இராகாலப்தி மற்றும் ரூப்காலப்தி. ஆலப்தி என்பது ஸ்வஸ்தானங்களால் ஆளப்படுகிறது. ப்ரத்மா, த்ருதியா, த்ருதியா மற்றும் சதுர்த ஸ்வஸ்தானா என்று நான்கு வகை ஸ்வஸ்தானங்கள் உள்ளன. ரூப்காலப்தி இரு படிநிலைகளில் செய்யப்படுகிறது. அவையாவன, ப்ரதிக்ருஹனிகா மற்றும் பஞ்ஜனி. மேலும் பஞ்ஜனி என்பது ஸ்தாய பஞ்ஜனி மற்றும் ரூபக பஞ்ஜனி என்ற இரு வழிகளில் செய்யப்படுகின்றன.

ஆலப்தியில் எத்தனை வகைகள் உள்ளன?

1. 2
2. 4
3. 5
4. 7

Options :

485584134465. 1
485584134466. 2
485584134467. 3
485584134468. 4

Question Number : 253 Question Id : 48558433618 Question Type : MCQ Option Shuffling : No Is Question Mandatory : No Calculator : None Response Time : N.A Think Time : N.A Minimum Instruction Time : 0

Correct Marks : 5 Wrong Marks : 1

Question Key Details :

Key	Value
Comprehension	Comp1

Read the paragraph and answer the following questions:

Raga has been manifested through Anibaddha and Nibaddha. Anibaddha refers to free extempore development of a raga. In ancient period, it was done under the concept of Alapti. Alapti is of two types - Ragalapti and Rupkalapti. alapti is governed by Svasthana. there are four types of Svasthana known as Prathama, Dvitya, Tritiya and Chaturtha Svasthana. Rupkalapti is done in two steps, that is, Pratigrahanika and Bhanjani. Bhanjani can further be done in two ways which are Sthaya Bhanjani and Rupak Bhanjani.

Alapti is governed by :

1. Sthaya
2. Nature of Tala
3. Svasthana
4. Nibaddha

Options :

485584134469. 1
485584134470. 2
485584134471. 3
485584134472. 4

Question Number : 253 Question Id : 48558433618 Question Type : MCQ Option Shuffling : No Is Question Mandatory : No Calculator : None Response Time : N.A Think Time : N.A Minimum Instruction Time : 0

Correct Marks : 5 Wrong Marks : 1

Question Key Details :

Key	Value
Comprehension	Comp1

பின்வரும் பத்தியைப் படித்து, பின்வரும் வினாக்களுக்கு விடையளிக்கவும்:

அனிபத்தா மற்றும் நிப்பத்தா என்பதன் மூலம் இராகமானது கையாளப்படுகிறது. அனிபத்தா என்பது இராகத்தின் சரளமான முன்னேற்பாடற்ற வளர்ச்சியைக் குறிக்கும். பண்டைய காலத்தில், ஆலப்தி எனும் கருத்துருவின் கீழ் இது செய்யப்பட்டது. ஆலப்தி இரு வகைப்படும், அவை இராகாலப்தி மற்றும் ரூப்காலப்தி. ஆலப்தி என்பது ஸ்வஸ்தானங்களால் ஆளப்படுகிறது. ப்ரத்மா, த்விதியா, த்ருதியா மற்றும் சதுர்த ஸ்வஸ்தானா என்று நான்கு வகை ஸ்வஸ்தானங்கள் உள்ளன. ரூப்காலப்தி இரு படிநிலைகளில் செய்யப்படுகிறது. அவையாவன, ப்ரதிக்ருஹனிகா மற்றும் பஞ்ஜனி. மேலும் பஞ்ஜனி என்பது ஸ்தாய பஞ்ஜனி மற்றும் ரூபக பஞ்ஜனி என்ற இரு வழிகளில் செய்யப்படுகின்றன.

ஆலபி என்பது எவற்றால் கையாளப்படுகிறது?

1. ஸ்தாயா
2. தாளத்தின் இயல்பு
3. ஸ்வஸ்தானா
4. நிபத்தா

Options :

485584134469. 1
485584134470. 2
485584134471. 3
485584134472. 4

Question Number : 254 Question Id : 48558433619 Question Type : MCQ Option Shuffling : No Is Question Mandatory : No Calculator : None Response Time : N.A Think Time : N.A Minimum Instruction Time : 0

Correct Marks : 5 Wrong Marks : 1

Question Key Details :

Key	Value
Comprehension	Compl

Read the paragraph and answer the following questions:

Raga has been manifested through Anibaddha and Nibaddha. Anibaddha refers to free extempore development of a raga. In ancient period, it was done under the concept of Alapti. Alapti is of two types - Ragalapti and Rupkalapti. alapti is governed by Svasthana. there are four types of Svasthana known as Prathama, Dvitya, Tritiya and Chaturtha Svasthana. Rupkalapti is done in two steps, that is, Pratigrahanika and Bhanjani. Bhanjani can further be done in two ways which are Sthaya Bhanjani and Rupak Bhanjani.

Pratigrahanika and Bhanjani are the varieties of :

1. Dhatu
2. Gram
3. Prathama
4. Rupkalapti

Options :

485584134473. 1
485584134474. 2
485584134475. 3
485584134476. 4

Question Number : 254 Question Id : 48558433619 Question Type : MCQ Option Shuffling : No Is Question Mandatory : No Calculator : None Response Time : N.A Think Time : N.A Minimum Instruction Time : 0

Correct Marks : 5 Wrong Marks : 1

Question Key Details :

Key	Value
-----	-------

பின்வரும் பத்தியைப் படித்து, பின்வரும் வினாக்களுக்கு விடையளிக்கவும்:

அனிபத்தா மற்றும் நிப்பத்தா என்பதன் மூலம் இராகமானது கையாளப்படுகிறது. அனிபத்தா என்பது இராகத்தின் சரளமான முன்னேற்பாடற்ற வளர்ச்சியைக் குறிக்கும். பண்டைய காலத்தில், ஆலப்தி எனும் கருத்துருவின் கீழ் இது செய்யப்பட்டது. ஆலப்தி இரு வகைப்படும், அவை இராகாலப்தி மற்றும் ரூப்காலப்தி. ஆலப்தி என்பது ஸ்வஸ்தானங்களால் ஆளப்படுகிறது. ப்ரதமா, த்விதியா, த்ருதியா மற்றும் சதுர்த ஸ்வஸ்தானா என்று நான்கு வகை ஸ்வஸ்தானங்கள் உள்ளன. ரூப்காலப்தி இரு படிநிலைகளில் செய்யப்படுகிறது. அவையாவன, ப்ரதிக்குஹனிகா மற்றும் பஞ்ஜனி. மேலும் பஞ்ஜனி என்பது ஸ்தாய பஞ்ஜனி மற்றும் ரூபக பஞ்ஜனி என்ற இரு வழிகளில் செய்யப்படுகின்றன.

ப்ரதிக்குஹனிகா மற்றும் பஞ்ஜனி என்பன இவற்றின் வகைகளாகும்

1. தாது
2. க்ராம்
3. ப்ரதமா
4. ரூபகலாப்தி

Options :

485584134473. 1
 485584134474. 2
 485584134475. 3
 485584134476. 4

Question Number : 255 Question Id : 48558433620 Question Type : MCQ Option Shuffling : No Is Question Mandatory : No Calculator : None Response Time : N.A Think Time : N.A Minimum Instruction Time : 0

Correct Marks : 5 Wrong Marks : 1

Question Key Details :

Key	Value
Comprehension	Comp1

Read the paragraph and answer the following questions:

Raga has been manifested through Anibaddha and Nibaddha. Anibaddha refers to free extempore development of a raga. In ancient period, it was done under the concept of Alapti. Alapti is of two types - Ragalapti and Rupkalapti. alapti is governed by Svasthana. there are four types of Svasthana known as Prathama, Dvitya, Tritiya and Chaturtha Svasthana. Rupkalapti is done in two steps, that is, Pratigrahanika and Bhanjani. Bhanjani can further be done in two ways which are Sthaya Bhanjani and Rupak Bhanjani.

The two types of Bhanjani are:

1. Sthaya and Rupak
2. Rupak and Prathama
3. Tiritiya and Sthaya
4. Rupak and Chathurtha

Options :

485584134477. 1
485584134478. 2
485584134479. 3
485584134480. 4

Question Number : 255 Question Id : 48558433620 Question Type : MCQ Option Shuffling : No Is Question Mandatory : No Calculator : None Response Time : N.A Think Time : N.A Minimum Instruction Time : 0

Correct Marks : 5 Wrong Marks : 1

Question Key Details :

Key	Value
Comprehension	Compl

பின்வரும் பத்தியைப் படித்து, பின்வரும் வினாக்களுக்கு விடையளிக்கவும்:

அனிபத்தா மற்றும் நிப்பத்தா என்பதன் மூலம் இராகமானது கையாளப்படுகிறது. அனிபத்தா என்பது இராகத்தின் சரளமான முன்னேற்பாடற்ற வளர்ச்சியைக் குறிக்கும். பண்டைய காலத்தில், ஆலப்தி எனும் கருத்துருவின் கீழ் இது செய்யப்பட்டது. ஆலப்தி இரு வகைப்படும், அவை இராகாலப்தி மற்றும் ரூப்காலப்தி. ஆலப்தி என்பது ஸ்வஸ்தானங்களால் ஆளப்படுகிறது. ப்ரதமா, த்ரிதியா, த்ருதியா மற்றும் சதுர்த ஸ்வஸ்தானா என்று நான்கு வகை ஸ்வஸ்தானங்கள் உள்ளன. ரூப்காலப்தி இரு படிநிலைகளில் செய்யப்படுகிறது. அவையாவன, ப்ரதிக்க்ருஹனிகா மற்றும் பஞ்ஜனி. மேலும் பஞ்ஜனி என்பது ஸ்தாய பஞ்ஜனி மற்றும் ரூபக பஞ்ஜனி என்ற இரு வழிகளில் செய்யப்படுகின்றன.

பஞ்ஜனியின் இரு வகைகள் என்பன:

1. ஸ்தாயா மற்றும் ரூபக்
2. ரூபக் மற்றும் ப்ரதமா
3. த்ரிதியா மற்றும் ஸ்தாயா
4. ரூபக் மற்றும் சதுர்தா

Options :

485584134477. 1
485584134478. 2
485584134479. 3
485584134480. 4

Sub-Section Number :

Sub-Section Id : 4855842435
Question Shuffling Allowed : No
Is Section Default? : null

Question Number : 256 Question Id : 48558433621 Question Type : MCQ Option Shuffling : No Is Question Mandatory : No Calculator : None Response Time : N.A Think Time : N.A Minimum Instruction Time : 0

Correct Marks : 5 Wrong Marks : 1

Question Key Details :

Key	Value
Comprehension	Comp2

Read the paragraph and answer the following questions:

The Nobel recipient Rabindranath Tagore had a great place for Manipuri dance in his heart. He was attracted to the Manipuri dance form for its many features. In his poem "Chitrangada", which was later transformed into a dance drama, he takes the story to the land of Manipur. We have seen that Tagore was absorbed in padavali lyrics at a very tender age for the beautiful compositional and the descriptive aspect of the padavali poems. He wrote quite a few poems in Brajbuli like vaishnava lyrics in the pen name Bhanusingha which are a collection under the name of "Bhanusingher Padavali". These lyrics serve as a perfect accompaniment to Manipuri dances and often Bhanusingher Padavalis are performed as a dance drama in Manipuri dance style today.

What was the pen name of the author of 'Bhanusingher Padavali'?

1. Rabindranath Tagore
2. Bhanusingha
3. Chitrangada
4. Vaishnava

Options :

485584134481. 1
485584134482. 2
485584134483. 3
485584134484. 4

Question Number : 256 Question Id : 48558433621 Question Type : MCQ Option Shuffling : No Is Question Mandatory : No Calculator : None Response Time : N.A Think Time : N.A Minimum Instruction Time : 0

Correct Marks : 5 Wrong Marks : 1

Question Key Details :

Key	Value
Comprehension	Comp2

பின்வரும் பத்தியைப் படித்து, பின்வரும் வினாக்களுக்கு விடையளிக்கவும்:

நோபல் பரிசு பெற்ற இரபீந்திரநாத் தாகூர், மணிப்பூரி நடனம் மீது மிகுந்த நாட்டம் கொண்டிருந்தார். அதன் பல்வேறு அம்சங்களால் மணிப்பூரி நடனம் மீது அவர் ஈர்க்கப்பட்டார். பிற்காலத்தில் நாட்டிய நாடகமாக உருமாறிய அவரது "சித்ராங்கதா" எனும் அவரது கவிதையில், அவர் கதையை மணிப்பூரி நிலத்திற்கு எடுத்துச் செல்கிறார். பதாவளி கவிதைகளின் அழகான இசைத்தொகுப்பு மற்றும் விவரிக்கும் போக்கினால் மிகச் சிறிய வயதிலேயே தாகூர் பதாவளி கவிதை வரிகளால் கவரப்பட்டார் என்பது நாம் முன்பே அறிந்தோம். அவர் ப்ரஜ்புலியில் "பானுசிங்கர்பதாவளி" என்ற பெயரின் கீழ் ஒரு தொகுப்பினை பானுசிங்கா என்ற புனைப்பெயர் கொண்டு வைஷ்ணவ வரிகள் போன்ற சில கவிதைகளை எழுதியுள்ளார். இவ்வரிகள் மணிப்பூரி நடனங்களுக்கான மிகப்பொருத்தமான பக்க இணைப்பாக விளங்குகிறது. மேலும் பானுசிங்கர் பதாவளிகள், மணிப்பூரி நடனப்பாங்கில் இன்றும் நாட்டிய நாடகமாக அடிக்கடி நிகழ்த்தப்படுகின்றன.

பானுசிங்கர் பதாவளி எனும் ஆசிரியரின் புனைப்பெயரை யாது?

1. இரபீந்திரநாத் தாகூர்
2. பானுசிங்கா
3. சித்ராங்கதா
4. வைஷ்ணபா

Options :

485584134481. 1
485584134482. 2
485584134483. 3
485584134484. 4

Question Number : 257 Question Id : 48558433622 Question Type : MCQ Option Shuffling : No Is Question Mandatory : No Calculator : None Response Time : N.A Think Time : N.A Minimum Instruction Time : 0

Correct Marks : 5 Wrong Marks : 1

Question Key Details :

Key	Value
Comprehension	Comp2

Read the paragraph and answer the following questions:

The Nobel recipient Rabindranath Tagore had a great place for Manipuri dance in his heart. He was attracted to the Manipuri dance form for its many features. In his poem "Chitrangada", which was later transformed into a dance drama, he takes the story to the land of Manipur. We have seen that Tagore was absorbed in padavali lyrics at a very tender age for the beautiful compositional and the descriptive aspect of the padavali poems. He wrote quite a few poems in Brajbuli like vaishnava lyrics in the pen name Bhanusingha which are a collection under the name of "Bhanusingher Padavali". These lyrics serve as a perfect accompaniment to Manipuri dances and often Bhanusingher Padavalis are performed as a dance drama in Manipuri dance style today.

Who got the "Nobel Prize" for his book of poems "Geetanjali"?

1. Rabindranath Tagore
2. Abnindranath Tagore
3. Sachindranath Tagore
4. Brijendranath Tagore

Options :

485584134485. 1
485584134486. 2
485584134487. 3
485584134488. 4

Question Number : 257 Question Id : 48558433622 Question Type : MCQ Option Shuffling : No Is Question Mandatory : No Calculator : None Response Time : N.A Think Time : N.A Minimum Instruction Time : 0

Correct Marks : 5 Wrong Marks : 1

Question Key Details :

Key	Value
Comprehension	Comp2

பின்வரும் பத்தியைப் படித்து, பின்வரும் வினாக்களுக்கு விடையளிக்கவும்:

நோபல் பரிசு பெற்ற இரபீந்திரநாத் தாகூர், மணிப்பூரி நடனம் மீது மிகுந்த நாட்டம் கொண்டிருந்தார். அதன் பல்வேறு அம்சங்களால் மணிப்பூரி நடனம் மீது அவர் ஈர்க்கப்பட்டார். பிற்காலத்தில் நாட்டிய நாடகமாக உருமாறிய அவரது "சித்ராங்கதா" எனும் அவரது கவிதையில், அவர் கதையை மணிப்பூரி நிலத்திற்கு எடுத்துச் செல்கிறார். பதாவளி கவிதைகளின் அழகான இசைத்தொகுப்பு மற்றும் விவரிக்கும் போக்கினால் மிகச் சிறிய வயதிலேயே தாகூர் பதாவளி கவிதை வரிகளால் கவரப்பட்டார் என்பது நாம் முன்பே அறிந்தோம். அவர் ப்ரஜ்புலியில் "பானுசிங்கர்பதாவளி" என்ற பெயரின் கீழ் ஒரு தொகுப்பினை பானுசிங்கா என்ற புனைப்பெயர் கொண்டு வைஷ்ணவ வரிகள் போன்ற சில கவிதைகளை எழுதியுள்ளார். இவ்வரிகள் மணிப்பூரி நடனங்களுக்கான மிகப்பொருத்தமான பக்க இணைப்பாக விளங்குகிறது. மேலும் பானுசிங்கர்பதாவளிகள், மணிப்பூரி நடனப்பாங்கில் இன்றும் நாட்டிய நாடகமாக அடிக்கடி நிகழ்த்தப்படுகின்றன.

கீதாஞ்சலி எனும் தனது கவிதைகளின் புத்தகத்திற்கு "நோபல் பரிசு" வென்றவர் யார்?

1. இரபீந்திரநாத் தாகூர்
2. அப்நிந்திரநாத் தாகூர்
3. சச்சீந்திரநாத் தாகூர்
4. ப்ரஜ்ஜேந்திரநாத் தாகூர்

Options :

485584134485. 1

485584134486. 2
485584134487. 3
485584134488. 4

Question Number : 258 Question Id : 48558433623 Question Type : MCQ Option Shuffling : No Is Question Mandatory : No Calculator : None Response Time : N.A Think Time : N.A Minimum Instruction Time : 0

Correct Marks : 5 Wrong Marks : 1

Question Key Details :

Key	Value
Comprehension	Comp2

Read the paragraph and answer the following questions:

The Nobel recipient Rabindranath Tagore had a great place for Manipuri dance in his heart. He was attracted to the Manipuri dance form for its many features. In his poem "Chitrangada", which was later transformed into a dance drama, he takes the story to the land of Manipur. We have seen that Tagore was absorbed in padavali lyrics at a very tender age for the beautiful compositional and the descriptive aspect of the padavali poems. He wrote quite a few poems in Brajbuli like vaishnava lyrics in the pen name Bhanusingha which are a collection under the name of "Bhanusingher Padavali". These lyrics serve as a perfect accompaniment to Manipuri dances and often Bhanusingher Padavalis are performed as a dance drama in Manipuri dance style today.

Which poem written by Tagore was later turned into a dance-drama in Manipuri dance?

1. Chandalika
2. Geetanjali
3. Sujata
4. Chitrangada

Options :

485584134489. 1
485584134490. 2
485584134491. 3
485584134492. 4

Question Number : 258 Question Id : 48558433623 Question Type : MCQ Option Shuffling : No Is Question Mandatory : No Calculator : None Response Time : N.A Think Time : N.A Minimum Instruction Time : 0

Correct Marks : 5 Wrong Marks : 1

Question Key Details :

Key	Value
Comprehension	Comp2

பின்வரும் பத்தியைப் படித்து, பின்வரும் வினாக்களுக்கு விடையளிக்கவும்:

நோபல் பரிசு பெற்ற இரபீந்திரநாத் தாகூர், மணிப்பூரி நடனம் மீது மிகுந்த நாட்டம் கொண்டிருந்தார். அதன் பல்வேறு அம்சங்களால் மணிப்பூரி நடனம் மீது அவர் ஈர்க்கப்பட்டார். பிற்காலத்தில் நாட்டிய நாடகமாக உருமாறிய அவரது "சித்ராங்கதா" எனும் அவரது கவிதையில், அவர் கதையை மணிப்பூரி நிலத்திற்கு எடுத்துச் செல்கிறார். பதாவளி கவிதைகளின் அழகான இசைத்தொகுப்பு மற்றும் விவரிக்கும் போக்கினால் மிகச் சிறிய வயதிலேயே தாகூர் பதாவளி கவிதை வரிகளால் கவரப்பட்டார் என்பது நாம் முன்பே அறிந்தோம். அவர் ப்ரஜ்புலியில் "பானுசிங்கர்பதாவளி" என்ற பெயரின் கீழ் ஒரு தொகுப்பினை பானுசிங்கா என்ற புனைப்பெயர் கொண்டு வைஷ்ணவ வரிகள் போன்ற சில கவிதைகளை எழுதியுள்ளார். இவ்வரிகள் மணிப்பூரி நடனங்களுக்கான மிகப்பொருத்தமான பக்க இணைப்பாக விளங்குகிறது. மேலும் பானுசிங்கர் பதாவளிகள், மணிப்பூரி நடனப்பாங்கில் இன்றும் நாட்டிய நாடகமாக அடிக்கடி நிகழ்த்தப்படுகின்றன.

தாகூரால் எழுதப்பட்ட எந்த கவிதை மணிப்பூரி நாடகத்தில் நாட்டிய நாடகமாக பிற்காலத்தில் உருமாறியது?

1. சந்தாலிக்கா
2. கீதாஞ்சலி
3. சுஜாதா
4. சித்ராங்கதா

Options :

485584134489. 1
485584134490. 2
485584134491. 3
485584134492. 4

Question Number : 259 Question Id : 48558433624 Question Type : MCQ Option Shuffling : No Is Question Mandatory : No Calculator : None Response Time : N.A Think Time : N.A Minimum Instruction Time : 0

Correct Marks : 5 Wrong Marks : 1

Question Key Details :

Key	Value
Comprehension	Comp2

Read the paragraph and answer the following questions:

The Nobel recipient Rabindranath Tagore had a great place for Manipuri dance in his heart. He was attracted to the Manipuri dance form for its many features. In his poem "Chitrangada", which was later transformed into a dance drama, he takes the story to the land of Manipur. We have seen that Tagore was absorbed in padavali lyrics at a very tender age for the beautiful compositional and the descriptive aspect of the padavali poems. He wrote quite a few poems in Brajbuli like vaishnava lyrics in the pen name Bhanusingha which are a collection under the name of "Bhanusingher Padavali". These lyrics serve as a perfect accompaniment to Manipuri dances and often Bhanusingher Padavalis are performed as a dance drama in Manipuri dance style today.

Which classical dance form had a great place in the heart of Rabindranath Tagore?

1. Mohiniattam
2. Odissi
3. Manipuri
4. Sattriya

Options :

485584134493. 1
485584134494. 2
485584134495. 3
485584134496. 4

Question Number : 259 Question Id : 48558433624 Question Type : MCQ Option Shuffling : No Is Question Mandatory : No Calculator : None Response Time : N.A Think Time : N.A Minimum Instruction Time : 0

Correct Marks : 5 Wrong Marks : 1

Question Key Details :

Key	Value
Comprehension	Comp2

பின்வரும் பத்தியைப் படித்து, பின்வரும் வினாக்களுக்கு விடையளிக்கவும்:

நோபல் பரிசு பெற்ற இரபீந்திரநாத் தாகூர், மணிப்பூரி நடனம் மீது மிகுந்த நாட்டம் கொண்டிருந்தார். அதன் பல்வேறு அம்சங்களால் மணிப்பூரி நடனம் மீது அவர் ஈர்க்கப்பட்டார். பிற்காலத்தில் நாட்டிய நாடகமாக உருமாறிய அவரது "சித்ராங்கதா" எனும் அவரது கவிதையில், அவர் கதையை மணிப்பூரி நிலத்திற்கு எடுத்துச் செல்கிறார். பதாவளி கவிதைகளின் அழகான இசைத்தொகுப்பு மற்றும் விவரிக்கும் போக்கினால் மிகச் சிறிய வயதிலேயே தாகூர் பதாவளி கவிதை வரிகளால் கவரப்பட்டார் என்பது நாம் முன்பே அறிந்தோம். அவர் ப்ரஜ்புலியில் "பானுசிங்கர்பதாவளி" என்ற பெயரின் கீழ் ஒரு தொகுப்பினை பானுசிங்கா என்ற புனைப்பெயர் கொண்டு வைஷ்ணவ வரிகள் போன்ற சில கவிதைகளை எழுதியுள்ளார். இவ்வரிகள் மணிப்பூரி நடனங்களுக்கான மிகப்பொருத்தமான பக்க இணைப்பாக விளங்குகிறது. மேலும் பானுசிங்கர்பதாவளிகள், மணிப்பூரி நடனப்பாங்கில் இன்றும் நாட்டிய நாடகமாக அடிக்கடி நிகழ்த்தப்படுகின்றன.

இரபீந்திரநாத் தாகூரின் மனதில் பெறும் இடம்பிடித்த பாரம்பரிய நாட்டிய வடிவம் எது?

1. மோஹினி ஆட்டம்
2. ஒடிஸி
3. மணிப்பூரி
4. சட்ரியா

Options :

485584134493. 1

485584134494. 2
485584134495. 3
485584134496. 4

Question Number : 260 Question Id : 48558433625 Question Type : MCQ Option Shuffling : No Is Question Mandatory : No Calculator : None Response Time : N.A Think Time : N.A Minimum Instruction Time : 0

Correct Marks : 5 Wrong Marks : 1

Question Key Details :

Key	Value
Comprehension	Comp2

Read the paragraph and answer the following questions:

The Nobel recipient Rabindranath Tagore had a great place for Manipuri dance in his heart. He was attracted to the Manipuri dance form for its many features. In his poem "Chitrangada", which was later transformed into a dance drama, he takes the story to the land of Manipur. We have seen that Tagore was absorbed in padavali lyrics at a very tender age for the beautiful compositional and the descriptive aspect of the padavali poems. He wrote quite a few poems in Brajbuli like vaishnava lyrics in the pen name Bhanusingha which are a collection under the name of "Bhanusingher Padavali". These lyrics serve as a perfect accompaniment to Manipuri dances and often Bhanusingher Padavalis are performed as a dance drama in Manipuri dance style today.

"Bhanusingher Padavali" was written in which language?

1. Brajvalli
2. Bengali
3. Brajbuli
4. Pali

Options :

485584134497. 1
485584134498. 2
485584134499. 3
485584134500. 4

Question Number : 260 Question Id : 48558433625 Question Type : MCQ Option Shuffling : No Is Question Mandatory : No Calculator : None Response Time : N.A Think Time : N.A Minimum Instruction Time : 0

Correct Marks : 5 Wrong Marks : 1

Question Key Details :

Key	Value
Comprehension	Comp2

பின்வரும் பத்தியைப் படித்து, பின்வரும் வினாக்களுக்கு விடையளிக்கவும்:

நோபல் பரிசு பெற்ற இரபீந்திரநாத் தாகூர், மணிப்பூரி நடனம் மீது மிகுந்த நாட்டம் கொண்டிருந்தார். அதன் பல்வேறு அம்சங்களால் மணிப்பூரி நடனம் மீது அவர் ஈர்க்கப்பட்டார். பிற்காலத்தில் நாட்டிய நாடகமாக உருமாறிய அவரது "சித்ராங்கதா" எனும் அவரது கவிதையில், அவர் கதையை மணிப்பூரி நிலத்திற்கு எடுத்துச் செல்கிறார். பதாவளி கவிதைகளின் அழகான இசைத்தொகுப்பு மற்றும் விவரிக்கும் போக்கினால் மிகச் சிறிய வயதிலேயே தாகூர் பதாவளி கவிதை வரிகளால் கவரப்பட்டார் என்பது நாம் முன்பே அறிந்தோம். அவர் ப்ரஜ்புலியில் "பானுசிங்கர்பதாவளி" என்ற பெயரின் கீழ் ஒரு தொகுப்பினை பானுசிங்கா என்ற புனைப்பெயர் கொண்டு வைஷ்ணவ வரிகள் போன்ற சில கவிதைகளை எழுதியுள்ளார். இவ்வரிகள் மணிப்பூரி நடனங்களுக்கான மிகப்பொருத்தமான பக்க இணைப்பாக விளங்குகிறது. மேலும் பானுசிங்கர் பதாவளிகள், மணிப்பூரி நடனப்பாங்கில் இன்றும் நாட்டிய நாடகமாக அடிக்கடி நிகழ்த்தப்படுகின்றன.

"பானுசிங்கர் பதாவளி" எந்த மொழியில் எழுதப்பட்டுள்ளது?

1. ப்ரஜ்வல்லி
2. பெங்காலி
3. ப்ரஜ்புலி
4. பாலி

Options :

485584134497. 1

485584134498. 2

485584134499. 3

485584134500. 4

Sub-Section Number :

3

Sub-Section Id :

4855842436

Question Shuffling Allowed :

No

Is Section Default? :

null

Question Number : 261 Question Id : 48558433626 Question Type : MCQ Option Shuffling : No Is Question Mandatory : No Calculator : None Response Time : N.A Think Time : N.A Minimum Instruction Time : 0

Correct Marks : 5 Wrong Marks : 1

Question Key Details :

Key	Value
Comprehension	Comp3

There is a great importance of laya in Indian Talas. Laya has been categorised basically into three types - Vilambit, Madhya and Druta. The rule of application in various forms of laya is called 'Yati'. Yati denotes application of 'gati'. Yati has been classified into five types, Sama, Strotogata, Gopuchha, Mridanga and Pipilika. In sama yati, the same laya is used throughout, that is beginning to end. In strotogata, initially we use slow (vilambit) laya whereas Madhya occurs in the middle and Drut laya comes at the end. When it comes to Gopuchha, exactly inverse order of layas is put to application vis a vis strotogata meaning thereby in the later Druta, Madhya laya and Vilambit laya occurs in the first, middle and last order. In Mridanga, drut laya is used at the outset as well as at the end and Madhya laya is used amidst thereof. In Pipilika, vilambit laya occurs in the beginning, at the end while madhya laya is used in middle order, hence 'Yati' is an important aspect of tala's Das Pranas.

Read the above passage and answer the following questions:

Which is the part of Ten pranas of Talas?

1. Chakradar
2. Uthan
3. Yati
4. Peshkar

Options :

485584134501. 1
485584134502. 2
485584134503. 3
485584134504. 4

Question Number : 261 Question Id : 48558433626 Question Type : MCQ Option Shuffling : No Is Question Mandatory : No Calculator : None Response Time : N.A Think Time : N.A Minimum Instruction Time : 0

Correct Marks : 5 Wrong Marks : 1

Question Key Details :

Key	Value
Comprehension	Comp3

இந்திய தாளங்களில் லயத்திற்கென்ற பெரும் முக்கியத்துவம் உள்ளது. லயம் என்பது அடிப்படையில், விளம்பித், மத்ய மற்றும் த்ருத எனும் மூன்று வகையாக பிரிக்கப்பட்டுள்ளது. லயத்தின் வெவ்வேறு வடிவங்களை அளிப்பதற்கான விதி, 'யதி' எனப்படும். யதி என்பது 'கதி'யின் பயன்பாட்டைக் குறிக்கும். சாம, ஸ்ரோதோகதா, கோபுச்சா, ம்ருதங்கா மற்றும் பிபிலிகா எனும் ஐந்து வகைகளாக யதி பிரிக்கப்பட்டுள்ளது. சாம யதியில் தொடக்கத்திலிருந்து முடிவு வரை ஒரே லயம் பயன்படுத்தப்பட்டுள்ளது. ஸ்ரோதோகதாவில், தொடக்கத்தில் மெதுவான (விளம்பித்) லயத்தையும் மையத்தில் மத்யத்தையும் இறுதியில் த்ருத லயமும் வரும். கோபுச்சாவிற்கு வரும்போது, ஸ்ரோதோகதாவிற்கு சற்றே எதிர் வரிசையில், அதாவது த்ருத, மத்ய லயம் மற்றும் விளம்பித் லயத்தின் முறையே முதல், மைய மற்றும் கடைசி வரிசையில் அமையப்பெற்றுள்ளது. ம்ருதங்கத்தில், பெருவாரியாக த்ருத லயம் பயன்படுத்தப்பட்டுள்ளது. இடையிடையே மத்ய லயம் பயன்படுத்தப்படுகிறது. பிபிலிகாவில், தொடக்கத்தில், இறுதியில் விளம்பித் லயமும், மைய வரிசையில் மத்ய லயமும் பயன்படுத்தப்பட்டு ஆதலால் தாளத்தின் பத்து ப்ராணங்களுக்கு 'யதி' ஒரு முக்கிய கூறாக விளங்குகிறது.

மேற்கூறிய பத்தியைப் படித்து, பின்வரும் வினாக்களுக்கு விடையளிக்கவும்:

தாளங்களின் பத்து ப்ராணங்களின் பாகமாக எது விளங்குகிறது?

1. சக்ரதார்
2. உதான்
3. யதி
4. பேஷ்கர்

Options :

485584134501. 1
 485584134502. 2
 485584134503. 3
 485584134504. 4

Question Number : 262 Question Id : 48558433627 Question Type : MCQ Option Shuffling : No Is Question Mandatory : No Calculator : None Response Time : N.A Think Time : N.A Minimum Instruction Time : 0

Correct Marks : 5 Wrong Marks : 1

Question Key Details :

Key	Value
Comprehension	Comp3

There is a great importance of laya in Indian Talas. Laya has been categorised basically into three types - Vilambit, Madhya and Druta. The rule of application in various forms of laya is called 'Yati'. Yati denotes application of 'gati'. Yati has been classified into five types, Sama, Strotogata, Gopuchha, Mridanga and Pipilika. In sama yati, the same laya is used throughout, that is beginning to end. In strotogata, initially we use slow (vilambit) laya whereas Madhya occurs in the middle and Drut laya comes at the end. When it comes to Gopuchha, exactly inverse order of layas is put to application vis a vis strotogata meaning thereby in the later Druta, Madhya laya and Vilambit laya occurs in the first, middle and last order. In Mridanga, drut laya is used at the outset as well as at the end and Madhya laya is used amidst thereof. In Pipilika, vilambit laya occurs in the beginning, at the end while madhya laya is used in middle order, hence 'Yati' is an important aspect of tala's Das Pranas.

Read the above passage and answer the following questions:

How many types of Yati are there?

1. 3
2. 5
3. 6
4. 8

Options :

- 485584134505. 1
- 485584134506. 2
- 485584134507. 3
- 485584134508. 4

Question Number : 262 Question Id : 48558433627 Question Type : MCQ Option Shuffling : No Is Question Mandatory : No Calculator : None Response Time : N.A Think Time : N.A Minimum Instruction Time : 0

Correct Marks : 5 Wrong Marks : 1

Question Key Details :

Key	Value
Comprehension	Comp3

இந்திய தாளங்களில் லயத்திற்கென்ற பெரும் முக்கியத்துவம் உள்ளது. லயம் என்பது அடிப்படையில், விளம்பித், மத்ய மற்றும் த்ருத எனும் மூன்று வகையாக பிரிக்கப்பட்டுள்ளது. லயத்தின் வெவ்வேறு வடிவங்களை அளிப்பதற்கான விதி, 'யதி' எனப்படும். யதி என்பது 'கதி'யின் பயன்பாட்டைக் குறிக்கும். சாம, ஸ்ரோதோகதா, கோபுச்சா, ம்ருதங்கா மற்றும் பிபிலிகா எனும் ஐந்து வகைகளாக யதி பிரிக்கப்பட்டுள்ளது. சாம யதியில் தொடக்கத்திலிருந்து முடிவு வரை ஒரே லயம் பயன்படுத்தப்பட்டுள்ளது. ஸ்ரோதோகதாவில், தொடக்கத்தில் மெதுவான (விளம்பித்) லயத்தையும் மையத்தில் மத்யத்தையும் இறுதியில் த்ருத லயமும் வரும். கோபுச்சாவிற்கு வரும்போது, ஸ்ரோதோகதாவிற்கு சற்றே எதிர் வரிசையில், அதாவது த்ருத, மத்ய லயம் மற்றும் விளம்பித் லயத்தின் முறையே முதல், மைய மற்றும் கடைசி வரிசையில் அமையப்பெற்றுள்ளது. ம்ருதங்கத்தில், பெருவாரியாக த்ருத லயம் பயன்படுத்தப்பட்டுள்ளது. இடையிடையே மத்ய லயம் பயன்படுத்தப்படுகிறது. பிபிலிகாவில், தொடக்கத்தில், இறுதியில் விளம்பித் லயமும், மைய வரிசையில் மத்ய லயமும் பயன்படுத்தப்பட்டு ஆதலால் தாளத்தின் பத்து ப்ராணங்களுக்கு 'யதி' ஒரு முக்கிய கூறாக விளங்குகிறது.

மேற்கூறிய பத்தியைப் படித்து, பின்வரும் வினாக்களுக்கு விடையளிக்கவும்:

யதியில் எத்தனை வகைகள் உள்ளன?

1. 3
2. 5
3. 6
4. 8

Options :

485584134505. 1
 485584134506. 2
 485584134507. 3
 485584134508. 4

Question Number : 263 Question Id : 48558433628 Question Type : MCQ Option Shuffling : No Is Question Mandatory : No Calculator : None Response Time : N.A Think Time : N.A Minimum Instruction Time : 0

Correct Marks : 5 Wrong Marks : 1

Question Key Details :

Key	Value
Comprehension	Comp3

There is a great importance of laya in Indian Talas. Laya has been categorised basically into three types - Vilambit, Madhya and Druta. The rule of application in various forms of laya is called 'Yati'. Yati denotes application of 'gati'. Yati has been classified into five types, Sama, Strotogata, Gopuchha, Mridanga and Pipilika. In sama yati, the same laya is used throughout, that is beginning to end. In strotogata, initially we use slow (vilambit) laya whereas Madhya occurs in the middle and Drut laya comes at the end. When it comes to Gopuchha, exactly inverse order of layas is put to application vis a vis strotogata meaning thereby in the later Druta, Madhya laya and Vilambit laya occurs in the first, middle and last order. In Mridanga, drut laya is used at the outset as well as at the end and Madhya laya is used amidst thereof. In Pipilika, vilambit laya occurs in the beginning, at the end while madhya laya is used in middle order, hence 'Yati' is an important aspect of tala's Das Pranas.

Read the above passage and answer the following questions:

Application of laya in Sama yati is:

1. Drut, Madhya, Drut
2. Madhya, Drut, Madhya
3. Same laya from beginning to end
4. Drut laya at the beginning and end, and vilambit laya in the middle

Options :

- 485584134509. 1
- 485584134510. 2
- 485584134511. 3
- 485584134512. 4

Question Number : 263 Question Id : 48558433628 Question Type : MCQ Option Shuffling : No Is Question Mandatory : No Calculator : None Response Time : N.A Think Time : N.A Minimum Instruction Time : 0

Correct Marks : 5 Wrong Marks : 1

Question Key Details :

Key	Value
Comprehension	Comp3

இந்திய தாளங்களில் லயத்திற்கென்ற பெரும் முக்கியத்துவம் உள்ளது. லயம் என்பது அடிப்படையில், விளம்பித், மத்ய மற்றும் த்ருத எனும் மூன்று வகையாக பிரிக்கப்பட்டுள்ளது. லயத்தின் வெவ்வேறு வடிவங்களை அளிப்பதற்கான விதி, 'யதி' எனப்படும். யதி என்பது 'கதி'யின் பயன்பாட்டைக் குறிக்கும். சாம, ஸ்ரோதோகதா, கோபுச்சா, ம்ருதங்கா மற்றும் பிபிலிகா எனும் ஐந்து வகைகளாக யதி பிரிக்கப்பட்டுள்ளது. சாம யதியில் தொடக்கத்திலிருந்து முடிவு வரை ஒரே லயம் பயன்படுத்தப்பட்டுள்ளது. ஸ்ரோதோகதாவில், தொடக்கத்தில் மெதுவான (விளம்பித்) லயத்தையும் மையத்தில் மத்யத்தையும் இறுதியில் துருத லயமும் வரும். கோபுச்சாவிற்கு வரும்போது, ஸ்ரோதோகதாவிற்கு சற்றே எதிர் வரிசையில், அதாவது துருத, மத்ய லயம் மற்றும் விளம்பித் லயத்தின் முறையே முதல், மைய மற்றும் கடைசி வரிசையில் அமையப்பெற்றுள்ளது. ம்ருதங்கத்தில், பெருவாரியாக துருத லயம் பயன்படுத்தப்பட்டுள்ளது. இடையிடையே மத்ய லயம் பயன்படுத்தப்படுகிறது. பிபிலிகாவில், தொடக்கத்தில், இறுதியில் விளம்பித் லயமும், மைய வரிசையில் மத்ய லயமும் பயன்படுத்தப்பட்டு ஆதலால் தாளத்தின் பத்து ப்ராணங்களுக்கு 'யதி' ஒரு முக்கிய கூறாக விளங்குகிறது.

மேற்கூறிய பத்தியைப் படித்து, பின்வரும் வினாக்களுக்கு விடையளிக்கவும்:

சாம யதியில் லயத்தின் பயன்பாடு யாது?

1. துருத, மத்ய, துருத
2. மத்ய, துருத, துருத
3. தொடக்கத்திலிருந்து இறுதி வரை ஒரே லயம்
4. தொடக்கத்திலும் இறுதியிலும் துருத லயம் மற்றும் மையத்தில் விளம்பித் லயம்

Options :

485584134509. 1

485584134510. 2

485584134511. 3

485584134512. 4

Question Number : 264 Question Id : 48558433629 Question Type : MCQ Option Shuffling : No Is Question Mandatory : No Calculator : None Response Time : N.A Think Time : N.A Minimum Instruction Time : 0

Correct Marks : 5 Wrong Marks : 1

Question Key Details :

Key	Value
Comprehension	Comp3

There is a great importance of laya in Indian Talas. Laya has been categorised basically into three types - Vilambit, Madhya and Druta. The rule of application in various forms of laya is called 'Yati'. Yati denotes application of 'gati'. Yati has been classified into five types, Sama, Strotogata, Gopuchha, Mridanga and Pipilika. In sama yati, the same laya is used throughout, that is beginning to end. In strotogata, initially we use slow (vilambit) laya whereas Madhya occurs in the middle and Drut laya comes at the end. When it comes to Gopuchha, exactly inverse order of layas is put to application vis a vis strotogata meaning thereby in the later Druta, Madhya laya and Vilambit laya occurs in the first, middle and last order. In Mridanga, drut laya is used at the outset as well as at the end and Madhya laya is used amidst thereof. In Pipilika, vilambit laya occurs in the beginning, at the end while madhya laya is used in middle order, hence 'Yati' is an important aspect of tala's Das Pranas.

Read the above passage and answer the following questions:

Drut in the beginning and end, and Madhya laya in the middle is:

1. Sama
2. Pipilika
3. Gopuchha
4. Mridanga

Options :

485584134513. 1
485584134514. 2
485584134515. 3
485584134516. 4

Question Number : 264 Question Id : 48558433629 Question Type : MCQ Option Shuffling : No Is Question Mandatory : No Calculator : None Response Time : N.A Think Time : N.A Minimum Instruction Time : 0

Correct Marks : 5 Wrong Marks : 1

Question Key Details :

Key	Value
Comprehension	Comp3

இந்திய தாளங்களில் லயத்திற்கென்ற பெரும் முக்கியத்துவம் உள்ளது. லயம் என்பது அடிப்படையில், விளம்பித், மத்ய மற்றும் த்ருத எனும் மூன்று வகையாக பிரிக்கப்பட்டுள்ளது. லயத்தின் வெவ்வேறு வடிவங்களை அளிப்பதற்கான விதி, 'யதி' எனப்படும். யதி என்பது 'கதி'யின் பயன்பாட்டைக் குறிக்கும். சாம, ஸ்ரோதோகதா, கோபுச்சா, ம்ருதங்கா மற்றும் பிபிலிகா எனும் ஐந்து வகைகளாக யதி பிரிக்கப்பட்டுள்ளது. சாம யதியில் தொடக்கத்திலிருந்து முடிவு வரை ஒரே லயம் பயன்படுத்தப்பட்டுள்ளது. ஸ்ரோதோகதாவில், தொடக்கத்தில் மெதுவான (விளம்பித்) லயத்தையும் மையத்தில் மத்யத்தையும் இறுதியில் துருத லயமும் வரும். கோபுச்சாவிற்கு வரும்போது, ஸ்ரோதோகதாவிற்கு சற்றே எதிர் வரிசையில், அதாவது துருத, மத்ய லயம் மற்றும் விளம்பித் லயத்தின் முறையே முதல், மைய மற்றும் கடைசி வரிசையில் அமையப்பெற்றுள்ளது. ம்ருதங்கத்தில், பெருவாரியாக துருத லயம் பயன்படுத்தப்பட்டுள்ளது. இடையிடையே மத்ய லயம் பயன்படுத்தப்படுகிறது. பிபிலிகாவில், தொடக்கத்தில், இறுதியில் விளம்பித் லயமும், மைய வரிசையில் மத்ய லயமும் பயன்படுத்தப்பட்டு ஆதலால் தாளத்தின் பத்து ப்ராணங்களுக்கு 'யதி' ஒரு முக்கிய கூறாக விளங்குகிறது.

மேற்கூறிய பத்தியைப் படித்து, பின்வரும் வினாக்களுக்கு விடையளிக்கவும்:

தொடக்க மற்றும் இறுதியில் துருதம் மற்றும் இடைப்பட்ட மையத்தில் மத்ய லயம் என்பது:

1. சாம
2. பிபிலிகா
3. கோபுச்சா
4. ம்ருதங்கா

Options :

485584134513. 1
 485584134514. 2
 485584134515. 3
 485584134516. 4

Question Number : 265 Question Id : 48558433630 Question Type : MCQ Option Shuffling : No Is Question Mandatory : No Calculator : None Response Time : N.A Think Time : N.A Minimum Instruction Time : 0

Correct Marks : 5 Wrong Marks : 1

Question Key Details :

Key	Value
Comprehension	Comp3

There is a great importance of laya in Indian Talas. Laya has been categorised basically into three types - Vilambit, Madhya and Druta. The rule of application in various forms of laya is called 'Yati'. Yati denotes application of 'gati'. Yati has been classified into five types, Sama, Strotogata, Gopuchha, Mridanga and Pipilika. In sama yati, the same laya is used throughout, that is beginning to end. In strotogata, initially we use slow (vilambit) laya whereas Madhya occurs in the middle and Drut laya comes at the end. When it comes to Gopuchha, exactly inverse order of layas is put to application vis a vis strotogata meaning thereby in the later Druta, Madhya laya and Vilambit laya occurs in the first, middle and last order. In Mridanga, drut laya is used at the outset as well as at the end and Madhya laya is used amidst thereof. In Pipilika, vilambit laya occurs in the beginning, at the end while madhya laya is used in middle order, hence 'Yati' is an important aspect of tala's Das Pranas.

Read the above passage and answer the following questions:

The sequence of laya in strotogata is:

1. Vilambit - Madhya - Drut
2. Drut - Madhya - Drut
3. Drut - Drut - Madhya
4. Madhya - Vilambit - Drut

Options :

485584134517. 1
485584134518. 2
485584134519. 3
485584134520. 4

Question Number : 265 Question Id : 48558433630 Question Type : MCQ Option Shuffling : No Is Question Mandatory : No Calculator : None Response Time : N.A Think Time : N.A Minimum Instruction Time : 0

Correct Marks : 5 Wrong Marks : 1

Question Key Details :

Key	Value
Comprehension	Comp3

இந்திய தாளங்களில் லயத்திற்கென்ற பெரும் முக்கியத்துவம் உள்ளது. லயம் என்பது அடிப்படையில், விளம்பித், மத்ய மற்றும் த்ருத எனும் மூன்று வகையாக பிரிக்கப்பட்டுள்ளது. லயத்தின் வெவ்வேறு வடிவங்களை அளிப்பதற்கான விதி, 'யதி' எனப்படும். யதி என்பது 'கதி'யின் பயன்பாட்டைக் குறிக்கும். சாம, ஸ்ரோதோகதா, கோபுச்சா, ம்ருதங்கா மற்றும் பிபிலிகா எனும் ஐந்து வகைகளாக யதி பிரிக்கப்பட்டுள்ளது. சாம யதியில் தொடக்கத்திலிருந்து முடிவு வரை ஒரே லயம் பயன்படுத்தப்பட்டுள்ளது. ஸ்ரோதோகதாவில், தொடக்கத்தில் மெதுவான (விளம்பித்) லயத்தையும் மையத்தில் மத்யத்தையும் இறுதியில் துருத லயமும் வரும். கோபுச்சாவிற்கு வரும்போது, ஸ்ரோதோகதாவிற்கு சற்றே எதிர் வரிசையில், அதாவது துருத, மத்ய லயம் மற்றும் விளம்பித் லயத்தின் முறையே முதல், மைய மற்றும் கடைசி வரிசையில் அமையப்பெற்றுள்ளது. ம்ருதங்கத்தில், பெருவாரியாக துருத லயம் பயன்படுத்தப்பட்டுள்ளது. இடையிடையே மத்ய லயம் பயன்படுத்தப்படுகிறது. பிபிலிகாவில், தொடக்கத்தில், இறுதியில் விளம்பித் லயமும், மைய வரிசையில் மத்ய லயமும் பயன்படுத்தப்பட்டு ஆதலால் தாளத்தின் பத்து ப்ராணங்களுக்கு 'யதி' ஒரு முக்கிய கூறாக விளங்குகிறது.

மேற்கூறிய பத்தியைப் படித்து, பின்வரும் வினாக்களுக்கு விடையளிக்கவும்:

ஸ்ரோதோகதாவில் லயத்தின் அடுக்கு வரிசை என்பது?

1. விளம்பித் - மத்ய - துருத
2. துருத- மத்ய - துருத
3. துருத - துருத - மத்ய
4. மத்ய - விளம்பித் - துருத

Options :

485584134517. 1

485584134518. 2

485584134519. 3

485584134520. 4

Sub-Section Number :

4

Sub-Section Id :

4855842437

Question Shuffling Allowed :

No

Is Section Default? :

null

Question Number : 266 Question Id : 48558433631 Question Type : MCQ Option Shuffling : No Is Question Mandatory : No Calculator : None Response Time : N.A Think Time : N.A Minimum Instruction Time : 0

Correct Marks : 5 Wrong Marks : 1

Question Key Details :

Key	Value
Comprehension	Comp4

Read the following passage and answer the questions given below:

Sangeet Natak Akademi (SNA)

The SNA was established on 31 May 1952. In his speech at the inauguration on 28 January 1953, Maulana Azad (1888-1958), then Union Minister for Education and later founder of the Indian Council for Cultural Relations (ICCR), said that the aim of the SNA was to 'preserve our traditions by offering them an institutional form'.

The SNA's mission, stated in its Memorandum of Association is:

To promote research in the fields of Indian music, dance and drama and for this purpose to establish a library and a museum; to encourage the exchange of ideas and enrichment of techniques between the different regions in regard to the arts of music, dance and drama; to publish research on Indian performing arts; to revive and preserve folk traditions in different regions; to sponsor and encourage festival, seminars and conferences; to give recognition to individual artists for outstanding achievement; to foster cultural contacts between different regions of the country and with other countries; and to cooperate with similar Akademis, institutions and associations for the furtherance of these objectives

With respect to theatre, the SNA holds workshops for playwrights; funds interstate cultural exchange programmes; funds research in the traditional performing arts; offers financial support to cultural institutions; organizes festivals of modern theatre, traditional performance, shadow theatre, marionette theatre and other forms of puppetry; gives awards and fellowship to distinguished artists; collects audiotapes, videos and photographs; and maintains an audiovisual archive as well as a library.

When was the Sangeet Natak Akademi inaugurated?

1. 1952
2. 1953
3. 1954
4. 1950

Options :

- 485584134521. 1
- 485584134522. 2
- 485584134523. 3
- 485584134524. 4

Question Number : 266 Question Id : 48558433631 Question Type : MCQ Option Shuffling : No Is Question Mandatory : No Calculator : None Response Time : N.A Think Time : N.A Minimum Instruction Time : 0

Correct Marks : 5 Wrong Marks : 1

Question Key Details :

Key	Value
Comprehension	Comp4

பின்வரும் பத்தியைப் படித்து, பின்வரும் வினாக்களுக்கு விடையளிக்கவும்:

சங்கீத நாடக அகாடமி (SNA)

SNA என்பது 1952-ஆம் ஆண்டு மே 31 அன்று நிறுவப்பட்டது. 1953, ஜனவரி 28 அன்று நடைபெற்ற அதன் துவக்க விழாவில் பேசுகையில், மௌலானா ஆஸாத் (1888-1958), கல்வித் துறையின் ஒன்றிய அமைச்சரும் மேலும் பிற்காலத்தில் (ICCR) எனும் இந்திய கலாச்சார தொடர்புகளுக்கான கவுன்சிலை தொற்றுவித்தவருமனாவார். 'நமது பாரம்பரியத்தை போற்றிக்காக்க அதற்கு ஒரு நிறுவன வடிவம்' தந்துள்ளதாகக் கூறினார்.

தனது சங்கத்தின் பதிவுக் குறிப்பில் SNA-இன் திட்ட ஏற்பாட்டைக் கூறுகையில்:

இந்திய இசை, நடனம் மற்றும் நாடகத் துறைகளில் ஆராய்ச்சியைத் தூண்டவும் அதற்கான நடவடிக்கையாக ஒரு நூலகம் மற்றும் ஒரு மியூசியத்தை நிறுவுதல்; இசை, நடனம் மற்றும் நாடக ரீதியான எண்ணங்கள் மற்றும் தொழில்நுட்ப செறிவூட்டல்கள் போன்றவற்றை பரிமாறிகொள்வதை ஊக்குவிக்கவும், பல்வேறு பகுதிகளது நாட்டுப்புற பாரம்பரியத்தை புதுப்பித்து போற்றிக்காகவும், விழாக்கள், கருத்தரங்குகள் மற்றும் கருத்து பரிமாற்ற கூட்டங்கள் ஆகியவற்றிற்கு ஆதரவளித்து ஊக்குவிக்கவும்; தனிப்பட்ட கலைஞர்களின் தனிச்சிறந்த வெற்றிகளைப் போற்றுதல்; நாட்டின் பல்வேறு பகுதிகளுக்கு மற்றும் பிற நாடுகளுக்கு இடையிலான கலாச்சார தொடர்புகளை துரிதப்படுத்துதல்; மேலும் இவ்வகை நோக்கங்களை அடைவதற்காக இதனை ஒத்த அகாடமிகள், நிறுவனங்கள் மற்றும் சங்கங்களுடன் கூட்டுறவு கொள்ளுதல் என்பதாகும்.

நாடக அரங்கைப் பொறுத்தவரையில், SNA நாடக ஆசிரியர்களுக்கான கருத்துரு பட்டறைகளை நடத்துகிறது; மாநிலங்களுக்கு இடையிலான கலாச்சார பரிமாற்ற நிகழ்ச்சிகளுக்கு பொருளாதார உதவி அளிக்கிறது; பாரம்பரிய நிகழ்த்து கலைகளை ஆராய பண உதவி அளிக்கிறது; கலாச்சார நிறுவனங்களுக்கு பண ரீதியான ஆதரவு அளிக்கிறது; நவீன நாடக அரங்கின் விழாக்களை நடத்துவது; பாரம்பரிய நிகழ்ச்சிகள்; நிழற் அரங்கம் மாரியனேட் (பொம்மலாட்ட வகை) அரங்கம் மற்றும் பொம்மலாட்டத்தின் பிற வடிவங்களை ஏற்பாடு செய்வது; தனித்து விளங்கும் கலைஞர்களுக்கு விருதுகள் மற்றும் ஃபெல்லோஷிப் ஆகியன வழங்குதல்; ஒலி நாடாக்கள், காட்சிப் பதிவுகள் மற்றும் ஒளிப்படங்களை சேகரித்தல்; மேலும் ஒலி-ஒளி காப்பகம் மற்றும் நூலகங்களைப் பராமரிக்கவும் செய்கிறது.

சங்கீத நாடக அகாடமி எப்பொழுது துவங்கப்பட்டது?

1. 1952
2. 1953
3. 1954
4. 1950

Options :

485584134521. 1
485584134522. 2
485584134523. 3
485584134524. 4

Question Number : 267 Question Id : 48558433632 Question Type : MCQ Option Shuffling : No Is Question Mandatory : No Calculator : None Response Time : N.A Think Time : N.A Minimum Instruction Time : 0

Correct Marks : 5 Wrong Marks : 1

Question Key Details :

Key	Value
Comprehension	Comp4

Read the following passage and answer the questions given below:

Sangeet Natak Akademi (SNA)

The SNA was established on 31 May 1952. In his speech at the inauguration on 28 January 1953, Maulana Azad (1888-1958), then Union Minister for Education and later founder of the Indian Council for Cultural Relations (ICCR), said that the aim of the SNA was to 'preserve our traditions by offering them an institutional form'.

The SNA's mission, stated in its Memorandum of Association is:

To promote research in the fields of Indian music, dance and drama and for this purpose to establish a library and a museum; to encourage the exchange of ideas and enrichment of techniques between the different regions in regard to the arts of music, dance and drama; to publish research on Indian performing arts; to revive and preserve folk traditions in different regions; to sponsor and encourage festival, seminars and conferences; to give recognition to individual artists for outstanding achievement; to foster cultural contacts between different regions of the country and with other countries; and to cooperate with similar Akademis, institutions and associations for the furtherance of these objectives

With respect to theatre, the SNA holds workshops for playwrights; funds interstate cultural exchange programmes; funds research in the traditional performing arts; offers financial support to cultural institutions; organizes festivals of modern theatre, traditional performance, shadow theatre, marionette theatre and other forms of puppetry; gives awards and fellowship to distinguished artists; collects audiotapes, videos and photographs; and maintains an audiovisual archive as well as a library.

Who among the following was independent India's first Union Minister for Education?

1. Babasaheb Ambedkar
2. Sardar Vallabhbhai Patel
3. Maulana Azad
4. Rajendra Prasad

Options :

485584134525. 1
485584134526. 2
485584134527. 3
485584134528. 4

Question Number : 267 Question Id : 48558433632 Question Type : MCQ Option Shuffling : No Is Question Mandatory : No Calculator : None Response Time : N.A Think Time : N.A Minimum Instruction Time : 0

Correct Marks : 5 Wrong Marks : 1

Question Key Details :

Key	Value
Comprehension	Comp4

பின்வரும் பத்தியைப் படித்து, பின்வரும் வினாக்களுக்கு விடையளிக்கவும்:

சங்கீத நாடக அகாடமி (SNA)

SNA என்பது 1952-ஆம் ஆண்டு மே 31 அன்று நிறுவப்பட்டது. 1953, ஜனவரி 28 அன்று நடைபெற்ற அதன் துவக்க விழாவில் பேசுகையில், மௌலானா ஆஸாத் (1888-1958), கல்வித் துறையின் ஒன்றிய அமைச்சரும் மேலும் பிற்காலத்தில் (ICCR) எனும் இந்திய கலாச்சார தொடர்புகளுக்கான கவுன்சிலை தொற்றுவித்தவருமனாவார். 'நமது பாரம்பரியத்தை போற்றிக்காக்க அதற்கு ஒரு நிறுவன வடிவம்' தந்துள்ளதாகக் கூறினார்.

தனது சங்கத்தின் பதிவுக் குறிப்பில் SNA-இன் திட்ட ஏற்பாட்டைக் கூறுகையில்:

இந்திய இசை, நடனம் மற்றும் நாடகத் துறைகளில் ஆராய்ச்சியைத் தூண்டவும் அதற்கான நடவடிக்கையாக ஒரு நூலகம் மற்றும் ஒரு மியூசியத்தை நிறுவுதல்; இசை, நடனம் மற்றும் நாடக ரீதியான எண்ணங்கள் மற்றும் தொழில்நுட்ப செறிவூட்டல்கள் போன்றவற்றை பரிமாறிகொள்வதை ஊக்குவிக்கவும், பல்வேறு பகுதிகளது நாட்டுப்புற பாரம்பரியத்தை புதுப்பித்து போற்றிக்காகவும், விழாக்கள், கருத்தரங்குகள் மற்றும் கருத்து பரிமாற்ற கூட்டங்கள் ஆகியவற்றிற்கு ஆதரவளித்து ஊக்குவிக்கவும்; தனிப்பட்ட கலைஞர்களின் தனிச்சிறந்த வெற்றிகளைப் போற்றுதல்; நாட்டின் பல்வேறு பகுதிகளுக்கு மற்றும் பிற நாடுகளுக்கு இடையிலான கலாச்சார தொடர்புகளை துரிதப்படுத்துதல்; மேலும் இவ்வகை நோக்கங்களை அடைவதற்காக இதனை ஒத்த அகாடமிகள், நிறுவனங்கள் மற்றும் சங்கங்களுடன் கூட்டுறவு கொள்ளுதல் என்பதாகும்.

நாடக அரங்கைப் பொறுத்தவரையில், SNA நாடக ஆசிரியர்களுக்கான கருத்துரு பட்டறைகளை நடத்துகிறது; மாநிலங்களுக்கு இடையிலான கலாச்சார பரிமாற்ற நிகழ்ச்சிகளுக்கு பொருளாதார உதவி அளிக்கிறது; பாரம்பரிய நிகழ்த்து கலைகளை ஆராய பண உதவி அளிக்கிறது; கலாச்சார நிறுவனங்களுக்கு பண ரீதியான ஆதரவு அளிக்கிறது; நவீன நாடக அரங்கின் விழாக்களை நடத்துவது; பாரம்பரிய நிகழ்ச்சிகள்; நிழற் அரங்கம் மாரியனேட் (பொம்மலாட்ட வகை) அரங்கம் மற்றும் பொம்மலாட்டத்தின் பிற வடிவங்களை ஏற்பாடு செய்வது; தனித்து விளங்கும் கலைஞர்களுக்கு விருதுகள் மற்றும் ஃபெல்லோஷிப் ஆகியன வழங்குதல்; ஒலி நாடாக்கள், காட்சிப் பதிவுகள் மற்றும் ஒளிப்படங்களை சேகரித்தல்; மேலும் ஒலி-ஒளி காப்பகம் மற்றும் நூலகங்களைப் பராமரிக்கவும் செய்கிறது.

பின்வருபவர்களுள், எவர் சுதந்திர இந்தியாவின் கல்வித்துறை முதல் ஒன்றிய அமைச்சர் ஆவார்?

1. தாதாசாகப் அம்பேத்கர்
2. சர்தார் வல்லபாய் பட்டேல்
3. மௌலானா ஆசாத்
4. இராஜேந்திர பிரசாத்

Options :

485584134525. 1
485584134526. 2
485584134527. 3
485584134528. 4

Question Number : 268 Question Id : 48558433633 Question Type : MCQ Option Shuffling : No Is Question Mandatory : No Calculator : None Response Time : N.A Think Time : N.A Minimum Instruction Time : 0

Correct Marks : 5 Wrong Marks : 1

Question Key Details :

Key	Value
-----	-------

Read the following passage and answer the questions given below:

Sangeet Natak Akademi (SNA)

The SNA was established on 31 May 1952. In his speech at the inauguration on 28 January 1953, Maulana Azad (1888-1958), then Union Minister for Education and later founder of the Indian Council for Cultural Relations (ICCR), said that the aim of the SNA was to 'preserve our traditions by offering them an institutional form'.

The SNA's mission, stated in its Memorandum of Association is:

To promote research in the fields of Indian music, dance and drama and for this purpose to establish a library and a museum; to encourage the exchange of ideas and enrichment of techniques between the different regions in regard to the arts of music, dance and drama; to publish research on Indian performing arts; to revive and preserve folk traditions in different regions; to sponsor and encourage festival, seminars and conferences; to give recognition to individual artists for outstanding achievement; to foster cultural contacts between different regions of the country and with other countries; and to cooperate with similar Akademis, institutions and associations for the furtherance of these objectives

With respect to theatre, the SNA holds workshops for playwrights; funds interstate cultural exchange programmes; funds research in the traditional performing arts; offers financial support to cultural institutions; organizes festivals of modern theatre, traditional performance, shadow theatre, marionette theatre and other forms of puppetry; gives awards and fellowship to distinguished artists; collects audiotapes, videos and photographs; and maintains an audiovisual archive as well as a library.

'To preserve our traditions by offering them an institutional form', was the aim of:

1. Indian Council for Cultural Relations
2. National School of Drama
3. Lalitkala Akademi
4. Sangeet Natak Akademi

Options :

485584134529. 1
 485584134530. 2
 485584134531. 3
 485584134532. 4

Question Number : 268 Question Id : 48558433633 Question Type : MCQ Option Shuffling : No Is Question Mandatory : No Calculator : None Response Time : N.A Think Time : N.A Minimum Instruction Time : 0

Correct Marks : 5 Wrong Marks : 1

Question Key Details :

Key	Value
Comprehension	Comp4

பின்வரும் பத்தியைப் படித்து, பின்வரும் வினாக்களுக்கு விடையளிக்கவும்:

சங்கீத நாடக அகாடமி (SNA)

SNA என்பது 1952-ஆம் ஆண்டு மே 31 அன்று நிறுவப்பட்டது. 1953, ஜனவரி 28 அன்று நடைபெற்ற அதன் துவக்க விழாவில் பேசுகையில், மௌலானா ஆஸாத் (1888-1958), கல்வித் துறையின் ஒன்றிய அமைச்சரும் மேலும் பிற்காலத்தில் (ICCR) எனும் இந்திய கலாச்சார தொடர்புகளுக்கான கவுன்சிலை தொற்றுவித்தவருமனாவார். 'நமது பாரம்பரியத்தை போற்றிக்காக்க அதற்கு ஒரு நிறுவன வடிவம்' தந்துள்ளதாகக் கூறினார்.

தனது சங்கத்தின் பதிவுக் குறிப்பில் SNA-இன் திட்ட ஏற்பாட்டைக் கூறுகையில்:

இந்திய இசை, நடனம் மற்றும் நாடகத் துறைகளில் ஆராய்ச்சியைத் தூண்டவும் அதற்கான நடவடிக்கையாக ஒரு நூலகம் மற்றும் ஒரு மியூசியத்தை நிறுவுதல்; இசை, நடனம் மற்றும் நாடக ரீதியான எண்ணங்கள் மற்றும் தொழில்நுட்ப செறிவூட்டல்கள் போன்றவற்றை பரிமாறிகொள்வதை ஊக்குவிக்கவும், பல்வேறு பகுதிகளது நாட்டுப்புற பாரம்பரியத்தை புதுப்பித்து போற்றிக்காகவும், விழாக்கள், கருத்தரங்குகள் மற்றும் கருத்து பரிமாற்ற கூட்டங்கள் ஆகியவற்றிற்கு ஆதரவளித்து ஊக்குவிக்கவும்; தனிப்பட்ட கலைஞர்களின் தனிச்சிறந்த வெற்றிகளைப் போற்றுதல்; நாட்டின் பல்வேறு பகுதிகளுக்கு மற்றும் பிற நாடுகளுக்கு இடையிலான கலாச்சார தொடர்புகளை துரிதப்படுத்துதல்; மேலும் இவ்வகை நோக்கங்களை அடைவதற்காக இதனை ஒத்த அகாடமிகள், நிறுவனங்கள் மற்றும் சங்கங்களுடன் கூட்டுறவு கொள்ளுதல் என்பதாகும்.

நாடக அரங்கைப் பொறுத்தவரையில், SNA நாடக ஆசிரியர்களுக்கான கருத்துரு பட்டறைகளை நடத்துகிறது; மாநிலங்களுக்கு இடையிலான கலாச்சார பரிமாற்ற நிகழ்ச்சிகளுக்கு பொருளாதார உதவி அளிக்கிறது; பாரம்பரிய நிகழ்த்து கலைகளை ஆராய பண உதவி அளிக்கிறது; கலாச்சார நிறுவனங்களுக்கு பண ரீதியான ஆதரவு அளிக்கிறது; நவீன நாடக அரங்கின் விழாக்களை நடத்துவது; பாரம்பரிய நிகழ்ச்சிகள்; நிழற் அரங்கம் மாரியனேட் (பொம்மலாட்ட வகை) அரங்கம் மற்றும் பொம்மலாட்டத்தின் பிற வடிவங்களை ஏற்பாடு செய்வது; தனித்து விளங்கும் கலைஞர்களுக்கு விருதுகள் மற்றும் ஃபெல்லோஷிப் ஆகியன வழங்குதல்; ஒலி நாடாக்கள், காட்சிப் பதிவுகள் மற்றும் ஒளிப்படங்களை சேகரித்தல்; மேலும் ஒலி-ஒளி காப்பகம் மற்றும் நூலகங்களைப் பராமரிக்கவும் செய்கிறது.

'நமது பாரம்பரியத்தை போற்றிக்காக்க அவற்றிற்கு நிறுவன வடிவம் அளிக்கப்படுகிறது', என்பது எதன் இலக்காக அமைந்தது:

1. இந்திய கலாச்சார தொடர்புகளுக்கான கவுன்சில்
2. தேசிய நாடகப் பள்ளி
3. லலிதகலா அகாடமி
4. சங்கீத நாடக அகாடமி

Options :

485584134529. 1
485584134530. 2
485584134531. 3
485584134532. 4

Question Number : 269 Question Id : 48558433634 Question Type : MCQ Option Shuffling : No Is Question Mandatory : No Calculator : None Response Time : N.A Think Time : N.A Minimum Instruction Time : 0

Correct Marks : 5 Wrong Marks : 1

Question Key Details :

Key	Value
-----	-------

Read the following passage and answer the questions given below:

Sangeet Natak Akademi (SNA)

The SNA was established on 31 May 1952. In his speech at the inauguration on 28 January 1953, Maulana Azad (1888-1958), then Union Minister for Education and later founder of the Indian Council for Cultural Relations (ICCR), said that the aim of the SNA was to 'preserve our traditions by offering them an institutional form'.

The SNA's mission, stated in its Memorandum of Association is:

To promote research in the fields of Indian music, dance and drama and for this purpose to establish a library and a museum; to encourage the exchange of ideas and enrichment of techniques between the different regions in regard to the arts of music, dance and drama; to publish research on Indian performing arts; to revive and preserve folk traditions in different regions; to sponsor and encourage festival, seminars and conferences; to give recognition to individual artists for outstanding achievement; to foster cultural contacts between different regions of the country and with other countries; and to cooperate with similar Akademis, institutions and associations for the furtherance of these objectives

With respect to theatre, the SNA holds workshops for playwrights; funds interstate cultural exchange programmes; funds research in the traditional performing arts; offers financial support to cultural institutions; organizes festivals of modern theatre, traditional performance, shadow theatre, marionette theatre and other forms of puppetry; gives awards and fellowship to distinguished artists; collects audiotapes, videos and photographs; and maintains an audiovisual archive as well as a library.

Which among the following is NOT SNA's mission as stated in its Memorandum of Association?

1. To promote research in the fields of Indian Visual Arts
2. To publish research on Indian Performing Arts
3. To revive and preserve folk traditions in different regions
4. To sponsor and encourage festivals, seminars and conferences

Options :

485584134533. 1
 485584134534. 2
 485584134535. 3
 485584134536. 4

Question Number : 269 Question Id : 48558433634 Question Type : MCQ Option Shuffling : No Is Question Mandatory : No Calculator : None Response Time : N.A Think Time : N.A Minimum Instruction Time : 0

Correct Marks : 5 Wrong Marks : 1

Question Key Details :

Key	Value
Comprehension	Comp4

பின்வரும் பத்தியைப் படித்து, பின்வரும் வினாக்களுக்கு விடையளிக்கவும்:

சங்கீத நாடக அகாடமி (SNA)

SNA என்பது 1952-ஆம் ஆண்டு மே 31 அன்று நிறுவப்பட்டது. 1953, ஜனவரி 28 அன்று நடைபெற்ற அதன் துவக்க விழாவில் பேசுகையில், மௌலானா ஆஸாத் (1888-1958), கல்வித் துறையின் ஒன்றிய அமைச்சரும் மேலும் பிற்காலத்தில் (ICCR) எனும் இந்திய கலாச்சார தொடர்புகளுக்கான கவுன்சிலை தொற்றுவித்தவருமனாவர். 'நமது பாரம்பரியத்தை போற்றிக்காக்க அதற்கு ஒரு நிறுவன வடிவம்' தந்துள்ளதாகக் கூறினார்.

தனது சங்கத்தின் பதிவுக் குறிப்பில் SNA-இன் திட்ட ஏற்பாட்டைக் கூறுகையில்:

இந்திய இசை, நடனம் மற்றும் நாடகத் துறைகளில் ஆராய்ச்சியைத் தூண்டவும் அதற்கான நடவடிக்கையாக ஒரு நூலகம் மற்றும் ஒரு மியூசியத்தை நிறுவுதல்; இசை, நடனம் மற்றும் நாடக ரீதியான எண்ணங்கள் மற்றும் தொழில்நுட்ப செறிவூட்டல்கள் போன்றவற்றை பரிமாறிகொள்வதை ஊக்குவிக்கவும், பல்வேறு பகுதிகளது நாட்டுப்புற பாரம்பரியத்தை புதுப்பித்து போற்றிக்காகவும், விழாக்கள், கருத்தரங்குகள் மற்றும் கருத்து பரிமாற்ற கூட்டங்கள் ஆகியவற்றிற்கு ஆதரவளித்து ஊக்குவிக்கவும்; தனிப்பட்ட கலைஞர்களின் தனிச்சிறந்த வெற்றிகளைப் போற்றுதல்; நாட்டின் பல்வேறு பகுதிகளுக்கு மற்றும் பிற நாடுகளுக்கு இடையிலான கலாச்சார தொடர்புகளை துரிதப்படுத்துதல்; மேலும் இவ்வகை நோக்கங்களை அடைவதற்காக இதனை ஒத்த அகாடமிகள், நிறுவனங்கள் மற்றும் சங்கங்களுடன் கூட்டுறவு கொள்ளுதல் என்பதாகும்.

நாடக அரங்கைப் பொறுத்தவரையில், SNA நாடக ஆசிரியர்களுக்கான கருத்துரு பட்டறைகளை நடத்துகிறது; மாநிலங்களுக்கு இடையிலான கலாச்சார பரிமாற்ற நிகழ்ச்சிகளுக்கு பொருளாதார உதவி அளிக்கிறது; பாரம்பரிய நிகழ்த்து கலைகளை ஆராய பண உதவி அளிக்கிறது; கலாச்சார நிறுவனங்களுக்கு பண ரீதியான ஆதரவு அளிக்கிறது; நவீன நாடக அரங்கின் விழாக்களை நடத்துவது; பாரம்பரிய நிகழ்ச்சிகள்; நிழற் அரங்கம் மாரியனேட் (பொம்மலாட்ட வகை) அரங்கம் மற்றும் பொம்மலாட்டத்தின் பிற வடிவங்களை ஏற்பாடு செய்வது; தனித்து விளங்கும் கலைஞர்களுக்கு விருதுகள் மற்றும் ஃபெல்லோஷிப் ஆகியன வழங்குதல்; ஒலி நாடாக்கள், காட்சிப் பதிவுகள் மற்றும் ஒளிப்படங்களை சேகரித்தல்; மேலும் ஒலி-ஒளி காப்பகம் மற்றும் நூலகங்களைப் பராமரிக்கவும் செய்கிறது.

சங்கத்தின் பதிவுக்குறிப்பில் கூறப்பட்டது போன்று, பின்வருவனவற்றுள் எது SNA-வின் திட்ட ஏற்பாடாக அமைந்திருக்கவில்லை?

1. இந்திய காட்சிப்பதிவு கலைத் துறைகளில் ஆராய்ச்சியினை ஊக்குவித்தல்
2. இந்திய நிகழ் கலைக்கான ஆராய்ச்சியை வெளியிடுதல்
3. பல்வேறு பகுதிகளில் உள்ள நாட்டுப்புற பாரம்பரியத்தை புதுப்பித்து பாதுகாத்தல்
4. விழாக்கள், கருத்துரு கூட்டங்கள் மற்றும் கருத்தரங்குகளை ஆதரவளித்து ஊக்குவித்தல்

Options :

485584134533. 1
485584134534. 2
485584134535. 3
485584134536. 4

Question Number : 270 Question Id : 48558433635 Question Type : MCQ Option Shuffling : No Is Question Mandatory : No Calculator : None Response Time : N.A Think Time : N.A Minimum Instruction Time : 0

Correct Marks : 5 Wrong Marks : 1

Question Key Details :

Key	Value
Comprehension	Comp4

Read the following passage and answer the questions given below:

Sangeet Natak Akademi (SNA)

The SNA was established on 31 May 1952. In his speech at the inauguration on 28 January 1953, Maulana Azad (1888-1958), then Union Minister for Education and later founder of the Indian Council for Cultural Relations (ICCR), said that the aim of the SNA was to 'preserve our traditions by offering them an institutional form'.

The SNA's mission, stated in its Memorandum of Association is:

To promote research in the fields of Indian music, dance and drama and for this purpose to establish a library and a museum; to encourage the exchange of ideas and enrichment of techniques between the different regions in regard to the arts of music, dance and drama; to publish research on Indian performing arts; to revive and preserve folk traditions in different regions; to sponsor and encourage festival, seminars and conferences; to give recognition to individual artists for outstanding achievement; to foster cultural contacts between different regions of the country and with other countries; and to cooperate with similar Akademis, institutions and associations for the furtherance of these objectives

With respect to theatre, the SNA holds workshops for playwrights; funds interstate cultural exchange programmes; funds research in the traditional performing arts; offers financial support to cultural institutions; organizes festivals of modern theatre, traditional performance, shadow theatre, marionette theatre and other forms of puppetry; gives awards and fellowship to distinguished artists; collects audiotapes, videos and photographs; and maintains an audiovisual archive as well as a library.

According to the passage, identify the activities conducted by SNA, with respect to theatre.

- A. Funds international cultural exchange programmes
- B. Holds workshops for playwrights
- C. Funds research in the traditional Fine Arts
- D. Offers financial support to cultural institutions
- E. Gives awards and fellowships to distinguished artists

Choose the correct answer from the options given below:

- 1. A, B and D only
- 2. B, D and E only
- 3. B, C and E only
- 4. C, D and E only

Options :

- 485584134537. 1
- 485584134538. 2
- 485584134539. 3
- 485584134540. 4

Correct Marks : 5 Wrong Marks : 1

Question Key Details :

Key	Value
Comprehension	Comp4

பின்வரும் பத்தியைப் படித்து, பின்வரும் வினாக்களுக்கு விடையளிக்கவும்:

சங்கீத நாடக அகாடமி (SNA)

SNA என்பது 1952-ஆம் ஆண்டு மே 31 அன்று நிறுவப்பட்டது. 1953, ஜனவரி 28 அன்று நடைபெற்ற அதன் துவக்க விழாவில் பேசுகையில், மௌலானா ஆஸாத் (1888-1958), கல்வித் துறையின் ஒன்றிய அமைச்சரும் மேலும் பிற்காலத்தில் (ICCR) எனும் இந்திய கலாச்சார தொடர்புகளுக்கான கவுன்சிலை தொற்றுவித்தவருமனாவர். 'நமது பாரம்பரியத்தை போற்றிக்காக்க அதற்கு ஒரு நிறுவன வடிவம்' தந்துள்ளதாகக் கூறினார்.

தனது சங்கத்தின் பதிவுக் குறிப்பில் SNA-இன் திட்ட ஏற்பாட்டைக் கூறுகையில்:

இந்திய இசை, நடனம் மற்றும் நாடகத் துறைகளில் ஆராய்ச்சியைத் தூண்டவும் அதற்கான நடவடிக்கையாக ஒரு நூலகம் மற்றும் ஒரு மியூசியத்தை நிறுவுதல்; இசை, நடனம் மற்றும் நாடக ரீதியான எண்ணங்கள் மற்றும் தொழில்நுட்ப செறிவூட்டல்கள் போன்றவற்றை பரிமாறிக்கொள்வதை ஊக்குவிக்கவும், பல்வேறு பகுதிகளது நாட்டுப்புற பாரம்பரியத்தை புதுப்பித்து போற்றிக்காகவும், விழாக்கள், கருத்தரங்குகள் மற்றும் கருத்து பரிமாற்ற கூட்டங்கள் ஆகியவற்றிற்கு ஆதரவளித்து ஊக்குவிக்கவும்; தனிப்பட்ட கலைஞர்களின் தனிச்சிறந்த வெற்றிகளைப் போற்றுதல்; நாட்டின் பல்வேறு பகுதிகளுக்கு மற்றும் பிற நாடுகளுக்கு இடையிலான கலாச்சார தொடர்புகளை துரிதப்படுத்துதல்; மேலும் இவ்வகை நோக்கங்களை அடைவதற்காக இதனை ஒத்த அகாடமிகள், நிறுவனங்கள் மற்றும் சங்கங்களுடன் கூட்டுறவு கொள்ளுதல் என்பதாகும்.

நாடக அரங்கைப் பொறுத்தவரையில், SNA நாடக ஆசிரியர்களுக்கான கருத்துரு பட்டறைகளை நடத்துகிறது; மாநிலங்களுக்கு இடையிலான கலாச்சார பரிமாற்ற நிகழ்ச்சிகளுக்கு பொருளாதார உதவி அளிக்கிறது; பாரம்பரிய நிகழ்த்து கலைகளை ஆராய பண உதவி அளிக்கிறது; கலாச்சார நிறுவனங்களுக்கு பண ரீதியான ஆதரவு அளிக்கிறது; நவீன நாடக அரங்கின் விழாக்களை நடத்துவது; பாரம்பரிய நிகழ்ச்சிகள்; நிழற் அரங்கம் மாரியனேட் (பொம்மலாட்ட வகை) அரங்கம் மற்றும் பொம்மலாட்டத்தின் பிற வடிவங்களை ஏற்பாடு செய்வது; தனித்து விளங்கும் கலைஞர்களுக்கு விருதுகள் மற்றும் ஃபெல்லோஷிப் ஆகியன வழங்குதல்; ஒலி நாடாக்கள், காட்சிப் பதிவுகள் மற்றும் ஒளிப்படங்களை சேகரித்தல்; மேலும் ஒலி-ஒளி காப்பகம் மற்றும் நூலகங்களைப் பராமரிக்கவும் செய்கிறது.

பத்தியின் அடிப்படையில், நாடக அரங்கைப் பொறுத்தவரையில் SNA வால் நடத்தப்படும் நிகழ்ச்சிகள் என்பவை.

- A. பன்னாட்டு கலாச்சார பரிமாற்ற நிகழ்ச்சிகளுக்கு பொருளுதவி செய்கிறது.
- B. நாடக ஆசிரியர்களுக்கான கருத்துரு பட்டறைகளை நடத்துகிறது.
- C. பாரம்பரிய மென் கலைக்கான ஆராய்ச்சிக்கு பொருளுதவி செய்கிறது.
- D. கலாச்சார நிறுவனங்களுக்கு பண உதவி அளித்து ஆதரவளிக்கிறது.
- E. தனிச்சிறப்பு பெற்று விளங்கும் கலைஞர்களுக்கு விருதுகளும் ஃப்பெலோஷிப்புகளும் வழங்குதல்.

கீழே தரப்பட்டுள்ள வாய்ப்புகளில் இருந்து சரியான விடையைத் தேர்ந்தெடுக்கவும்:

- 1. A, B மற்றும் D மட்டும்
- 2. B, D மற்றும் E மட்டும்
- 3. B, C மற்றும் E மட்டும்
- 4. C, D மற்றும் E மட்டும்

Options :

- 485584134537. 1
- 485584134538. 2
- 485584134539. 3
- 485584134540. 4

Music

Section Id :	485584863
Section Number :	2
Section type :	Online
Mandatory or Optional :	Optional
Number of Questions :	25
Number of Questions to be attempted :	20
Section Marks :	100
Enable Mark as Answered Mark for Review and Clear Response :	Yes
Maximum Instruction Time :	0
Sub-Section Number :	1
Sub-Section Id :	4855842438
Question Shuffling Allowed :	Yes
Is Section Default? :	null

Question Number : 271 Question Id : 48558433636 Question Type : MCQ Option Shuffling : No Is Question Mandatory : No Calculator : None Response Time : N.A Think Time : N.A Minimum Instruction Time : 0

Correct Marks : 5 Wrong Marks : 1

Question Key Details :

Key	Value
Comprehension	MCQ1

Writer of our National Anthem -

1. Bankim Chandra Chatterjee
2. Mohammad Iqbal
3. Rabindranath Tagore
4. V. N. Bhatkhande

Options :

485584134541. 1
485584134542. 2
485584134543. 3
485584134544. 4

Question Number : 271 Question Id : 48558433636 Question Type : MCQ Option Shuffling : No Is Question Mandatory : No Calculator : None Response Time : N.A Think Time : N.A Minimum Instruction Time : 0

Correct Marks : 5 Wrong Marks : 1

Question Key Details :

Key	Value
Comprehension	MCQ1

நமது தேசிய கீதத்தை எழுதியவர்:

1. பங்கிம் சந்திர சட்டர்ஜி
2. மொஹம்மத் இக்பால்
3. இரபீந்திரநாத் தாகூர்
4. V. N. பட்கந்தே

Options :

485584134541. 1
485584134542. 2
485584134543. 3
485584134544. 4

Question Number : 272 Question Id : 48558433637 Question Type : MCQ Option Shuffling : No Is Question Mandatory : No Calculator : None Response Time : N.A Think Time : N.A Minimum Instruction Time : 0

Correct Marks : 5 Wrong Marks : 1

Question Key Details :

Key	Value
Comprehension	MCQ1

While singing Raga Malkauns, the first string of the Tanpura is tuned in:

1. Nishad
2. Madhyam
3. Shadaj
4. Pancham

Options :

485584134545. 1
485584134546. 2
485584134547. 3
485584134548. 4

Question Number : 272 Question Id : 48558433637 Question Type : MCQ Option Shuffling : No Is Question Mandatory : No Calculator : None Response Time : N.A Think Time : N.A Minimum Instruction Time : 0

Correct Marks : 5 Wrong Marks : 1

Question Key Details :

Key	Value
Comprehension	MCQ1

மல்கௌன்ஸ் இராகத்தை பாடுகையில், தம்பூராவின் முதல் கம்பி இதோடு ஒத்திசைவுறும்:

1. நிஷாடம்
2. மத்யமம்
3. ஷாடஜம்
4. பஞ்சமம்

Options :

485584134545. 1
485584134546. 2
485584134547. 3
485584134548. 4

Question Number : 273 Question Id : 48558433638 Question Type : MCQ Option Shuffling : No Is Question Mandatory : No Calculator : None Response Time : N.A Think Time : N.A Minimum Instruction Time : 0

Correct Marks : 5 Wrong Marks : 1

Question Key Details :

Key	Value
Comprehension	MCQ1

Kramik Pustak Malika is written by

1. Pt. V. D. Paluskar
2. Pt. Omkar Nath Thakur
3. Ravindranath Tagore
4. Pt. V. N. Bhatkhande

Options :

485584134549. 1
485584134550. 2
485584134551. 3
485584134552. 4

Question Number : 273 Question Id : 48558433638 Question Type : MCQ Option Shuffling : No Is Question Mandatory : No Calculator : None Response Time : N.A Think Time : N.A Minimum Instruction Time : 0

Correct Marks : 5 Wrong Marks : 1

Question Key Details :

Key	Value
Comprehension	MCQ1

கராமிக் புஸ்தக் மாலிகா என்பதை எழுதியவர்

1. பண்டிதர் வி.டி பலுஸ்கர்
2. பண்டிதர் ஓம்கார் நாத் தாகூர்
3. இரவீந்திரநாத் தாகூர்
4. பண்டிதர் வி.என் பட்காண்டே

Options :

485584134549. 1
485584134550. 2
485584134551. 3
485584134552. 4

Question Number : 274 Question Id : 48558433639 Question Type : MCQ Option Shuffling : No Is Question Mandatory : No Calculator : None Response Time : N.A Think Time : N.A Minimum Instruction Time : 0

Correct Marks : 5 Wrong Marks : 1

Question Key Details :

Key	Value
Comprehension	MCQ1

Shadav - Audav Jati has:

1. 6 Swaras in Aroha and 7 Swaras in Avaroha
2. 6 Swaras in Aroha and 5 Swaras in Avaroha
3. 6 Swaras in Aroha and 6 Swaras in Avaroha
4. 5 Swaras in Aroha and 6 Swaras in Avaroha

Options :

485584134553. 1
485584134554. 2
485584134555. 3
485584134556. 4

Question Number : 274 Question Id : 48558433639 Question Type : MCQ Option Shuffling : No Is Question Mandatory : No Calculator : None Response Time : N.A Think Time : N.A Minimum Instruction Time : 0

Correct Marks : 5 Wrong Marks : 1

Question Key Details :

Key	Value
Comprehension	MCQ1

ஷாடவ-ஔடவ ஜதி பெற்றிருப்பது:

1. ஆரோஹனத்தில் 6 ஸ்வரங்கள் மற்றும் அவரோஹனத்தில் 7 ஸ்வரங்கள்
2. ஆரோஹனத்தில் 6 ஸ்வரங்கள் மற்றும் அவரோஹனத்தில் 5 ஸ்வரங்கள்
3. ஆரோஹனத்தில் 6 ஸ்வரங்கள் மற்றும் அவரோஹனத்தில் 6 ஸ்வரங்கள்
4. ஆரோஹனத்தில் 5 ஸ்வரங்கள் மற்றும் அவரோஹனத்தில் 6 ஸ்வரங்கள்

Options :

485584134553. 1
485584134554. 2
485584134555. 3
485584134556. 4

Question Number : 275 Question Id : 48558433640 Question Type : MCQ Option Shuffling : No Is Question Mandatory : No Calculator : None Response Time : N.A Think Time : N.A Minimum Instruction Time : 0

Correct Marks : 5 Wrong Marks : 1

Question Key Details :

Key	Value
Comprehension	MCQ1

It is also called 'Sparsh' Swara :

1. Alankar
2. Vadi
3. Kan
4. Khatka

Options :

485584134557. 1
485584134558. 2
485584134559. 3
485584134560. 4

Question Number : 275 Question Id : 48558433640 Question Type : MCQ Option Shuffling : No Is Question Mandatory : No Calculator : None Response Time : N.A Think Time : N.A Minimum Instruction Time : 0

Correct Marks : 5 Wrong Marks : 1

Question Key Details :

Key	Value
Comprehension	MCQ1

இது 'ஸ்பர்ஷ்' ஸ்வரம் என்றும் அழைக்கப்படுகிறது:

1. அலங்காரம்
2. வாத்ரி
3. கான்
4. கட்கா

Options :

485584134557. 1
485584134558. 2
485584134559. 3
485584134560. 4

Question Number : 276 Question Id : 48558433641 Question Type : MCQ Option Shuffling : No Is Question Mandatory : No Calculator : None Response Time : N.A Think Time : N.A Minimum Instruction Time : 0

Correct Marks : 5 Wrong Marks : 1

Question Key Details :

Key	Value
Comprehension	MCQ1

The first beat (Matra) of the Tala is called:

1. Khali
2. Avartan
3. Tali
4. Sam

Options :

485584134561. 1
485584134562. 2
485584134563. 3
485584134564. 4

Question Number : 276 Question Id : 48558433641 Question Type : MCQ Option Shuffling : No Is Question Mandatory : No Calculator : None Response Time : N.A Think Time : N.A Minimum Instruction Time : 0

Correct Marks : 5 Wrong Marks : 1

Question Key Details :

Key	Value
Comprehension	MCQ1

தாளத்தின் முதல் தட்டு (மாத்திரை) இவ்வாறு அழைக்கப்படும்:

1. காளி
2. ஆவர்தனம்
3. தாளி
4. சாம

Options :

485584134561. 1
485584134562. 2
485584134563. 3
485584134564. 4

Question Number : 277 Question Id : 48558433642 Question Type : MCQ Option Shuffling : No Is Question Mandatory : No Calculator : None Response Time : N.A Think Time : N.A Minimum Instruction Time : 0

Correct Marks : 5 Wrong Marks : 1

Question Key Details :

Key	Value
Comprehension	MCQ1

A set of notes to identify a Raga is called:

1. Aroha
2. Avaroha
3. Alap
4. Pakad

Options :

485584134565. 1
485584134566. 2
485584134567. 3
485584134568. 4

Question Number : 277 Question Id : 48558433642 Question Type : MCQ Option Shuffling : No Is Question Mandatory : No Calculator : None Response Time : N.A Think Time : N.A Minimum Instruction Time : 0

Correct Marks : 5 Wrong Marks : 1

Question Key Details :

Key	Value
Comprehension	MCQ1

ஒரு இராகத்தை கண்டறியும் இசைக்குறிப்புகளின் தொகுப்பு இவ்வாறு அழைக்கப்படும்:

1. ஆரோஹனம்
2. அவரோஹனம்
3. ஆலாபனம்
4. பகடம்

Options :

485584134565. 1
485584134566. 2
485584134567. 3
485584134568. 4

Question Number : 278 Question Id : 48558433643 Question Type : MCQ Option Shuffling : No Is Question Mandatory : No Calculator : None Response Time : N.A Think Time : N.A Minimum Instruction Time : 0

Correct Marks : 5 Wrong Marks : 1

Question Key Details :

Key	Value
Comprehension	MCQ1

Elaboration of notes of a Raga in slow tempo is known as:

1. Gram
2. Murchhana
3. Tana
4. Alap

Options :

485584134569. 1
485584134570. 2
485584134571. 3
485584134572. 4

Question Number : 278 Question Id : 48558433643 Question Type : MCQ Option Shuffling : No Is Question Mandatory : No Calculator : None Response Time : N.A Think Time : N.A Minimum Instruction Time : 0

Correct Marks : 5 Wrong Marks : 1

Question Key Details :

Key	Value
Comprehension	MCQ1

குறைவான கால வேகத்தில் விரிவாக தரப்படும் ஒரு இராகத்தின் இசைக்குறிப்புகள் இவ்வாறு வழங்கப்படும்:

1. கிராமம்
2. மூர்ச்சனா
3. தானம்
4. ஆலாபனம்

Options :

485584134569. 1
485584134570. 2
485584134571. 3
485584134572. 4

Question Number : 279 Question Id : 48558433644 Question Type : MCQ Option Shuffling : No Is Question Mandatory : No Calculator : None Response Time : N.A Think Time : N.A Minimum Instruction Time : 0

Correct Marks : 5 Wrong Marks : 1

Question Key Details :

Key	Value
Comprehension	MCQ1

Mushtaq Ali Khan belonged to:

1. Jaipur Gharana
2. Senia Gharana
3. Kirana Gharana
4. Agra Gharana

Options :

485584134573. 1
485584134574. 2
485584134575. 3
485584134576. 4

Question Number : 279 Question Id : 48558433644 Question Type : MCQ Option Shuffling : No Is Question Mandatory : No Calculator : None Response Time : N.A Think Time : N.A Minimum Instruction Time : 0

Correct Marks : 5 Wrong Marks : 1

Question Key Details :

Key	Value
Comprehension	MCQ1

முஸ்தாக் அலி கான் இதற்குரியவர்:

1. ஜெய்ப்பூர் கரானா
2. சேனியா கரானா
3. கிரானா கரானா
4. ஆக்ரா கரானா

Options :

485584134573. 1
485584134574. 2
485584134575. 3
485584134576. 4

Question Number : 280 Question Id : 48558433645 Question Type : MCQ Option Shuffling : No Is Question Mandatory : No Calculator : None Response Time : N.A Think Time : N.A Minimum Instruction Time : 0

Correct Marks : 5 Wrong Marks : 1

Question Key Details :

Key	Value
Comprehension	MCQ1

Tala played with Maseetkhani Gat is:

1. Ektala
2. Teentala
3. Sooltala
4. Keharwa

Options :

485584134577. 1
485584134578. 2
485584134579. 3
485584134580. 4

Question Number : 280 Question Id : 48558433645 Question Type : MCQ Option Shuffling : No Is Question Mandatory : No Calculator : None Response Time : N.A Think Time : N.A Minimum Instruction Time : 0

Correct Marks : 5 Wrong Marks : 1

Question Key Details :

Key	Value
Comprehension	MCQ1

மசீத்கனி காட்டோடு இசைக்கப்படும் தாளம் என்பது:

1. ஏக்தாளம்
2. தீன்தாளம்
3. சூல்தாளம்
4. கேஹர்வா

Options :

485584134577. 1
485584134578. 2
485584134579. 3
485584134580. 4

Question Number : 281 Question Id : 48558433646 Question Type : MCQ Option Shuffling : No Is Question Mandatory : No Calculator : None Response Time : N.A Think Time : N.A Minimum Instruction Time : 0

Correct Marks : 5 Wrong Marks : 1

Question Key Details :

Key	Value
Comprehension	MCQ1

The first half of the Saptak is called:

1. Uttarang
2. Purvang
3. Aroha
4. Avaroha

Options :

485584134581. 1
485584134582. 2
485584134583. 3
485584134584. 4

Question Number : 281 Question Id : 48558433646 Question Type : MCQ Option Shuffling : No Is Question Mandatory : No Calculator : None Response Time : N.A Think Time : N.A Minimum Instruction Time : 0

Correct Marks : 5 Wrong Marks : 1

Question Key Details :

Key	Value
Comprehension	MCQ1

'சப்தாக்' இன் முதல் பாதி இவ்வாறு அழைக்கப்படும்

1. உத்தராங்கம்
2. பூர்வாங்கம்
3. ஆரோஹனம்
4. அவரோஹனம்

Options :

485584134581. 1
485584134582. 2
485584134583. 3
485584134584. 4

Question Number : 282 Question Id : 48558433647 Question Type : MCQ Option Shuffling : No Is Question Mandatory : No Calculator : None Response Time : N.A Think Time : N.A Minimum Instruction Time : 0

Correct Marks : 5 Wrong Marks : 1

Question Key Details :

Key	Value
Comprehension	MCQ1

Mention the tala with anga's Drutam + Laghu

1. Adi tala
2. Roopaka tala
3. Chapu tala
4. Tripata tala

Options :

485584134585. 1
485584134586. 2
485584134587. 3
485584134588. 4

Question Number : 282 Question Id : 48558433647 Question Type : MCQ Option Shuffling : No Is Question Mandatory : No Calculator : None Response Time : N.A Think Time : N.A Minimum Instruction Time : 0

Correct Marks : 5 Wrong Marks : 1

Question Key Details :

Key	Value
Comprehension	MCQ1

த்ருதம் + லகு எனும் அங்கங்களைக் கொண்ட தாளத்தைக் குறிப்பிடுக.

1. ஆதி தாளம்
2. ரூபக தாளம்
3. சாபு தாளம்
4. த்ரிபுட தாளம்

Options :

485584134585. 1
485584134586. 2
485584134587. 3
485584134588. 4

Question Number : 283 Question Id : 48558433648 Question Type : MCQ Option Shuffling : No Is Question Mandatory : No Calculator : None Response Time : N.A Think Time : N.A Minimum Instruction Time : 0

Correct Marks : 5 Wrong Marks : 1

Question Key Details :

Key	Value
Comprehension	MCQ1

Laya of Musical composition in fast tempo is known as:

1. Sama laya
2. Drut laya
3. Vilambit laya
4. Madhya laya

Options :

485584134589. 1
485584134590. 2
485584134591. 3
485584134592. 4

Question Number : 283 Question Id : 48558433648 Question Type : MCQ Option Shuffling : No Is Question Mandatory : No Calculator : None Response Time : N.A Think Time : N.A Minimum Instruction Time : 0

Correct Marks : 5 Wrong Marks : 1

Question Key Details :

Key	Value
Comprehension	MCQ1

விரைவான காலவேகத்தில் உள்ள இசைத் தொகுப்பின் லயம் இவ்வாறு அழைக்கப்படும்

1. சாம லயம்
2. துருத லயம்
3. விளம்பித் லயம்
4. மத்ய லயம்

Options :

485584134589. 1
485584134590. 2
485584134591. 3
485584134592. 4

Question Number : 284 Question Id : 48558433649 Question Type : MCQ Option Shuffling : No Is Question Mandatory : No Calculator : None Response Time : N.A Think Time : N.A Minimum Instruction Time : 0

Correct Marks : 5 Wrong Marks : 1

Question Key Details :

Key	Value
Comprehension	MCQ1

What is the original name of Purandaradas?

1. Venkatesa
2. Shreenivasa
3. Sreedhara
4. Vasudeva

Options :

485584134593. 1
485584134594. 2
485584134595. 3
485584134596. 4

Question Number : 284 Question Id : 48558433649 Question Type : MCQ Option Shuffling : No Is Question Mandatory : No Calculator : None Response Time : N.A Think Time : N.A Minimum Instruction Time : 0

Correct Marks : 5 Wrong Marks : 1

Question Key Details :

Key	Value
Comprehension	MCQ1

புரந்ததாஸரின் இயற்பெயர் என்ன?

1. வெங்கடேசா
2. ஸ்ரீநிவாஸா
3. ஸ்ரீதரா
4. வாசுதேவா

Options :

485584134593. 1
485584134594. 2
485584134595. 3
485584134596. 4

Question Number : 285 Question Id : 48558433650 Question Type : MCQ Option Shuffling : No Is Question Mandatory : No Calculator : None Response Time : N.A Think Time : N.A Minimum Instruction Time : 0

Correct Marks : 5 Wrong Marks : 1

Question Key Details :

Key	Value
Comprehension	MCQ1

Select the tala which has 7 Aksharakalas/Matra

1. Roopakam / Dadra
2. Adi Tala / Teental
3. Chaputala / Roopak
4. Jhampa Tala / Jhaptal

Options :

485584134597. 1
485584134598. 2
485584134599. 3
485584134600. 4

Question Number : 285 Question Id : 48558433650 Question Type : MCQ Option Shuffling : No Is Question Mandatory : No Calculator : None Response Time : N.A Think Time : N.A Minimum Instruction Time : 0

Correct Marks : 5 Wrong Marks : 1

Question Key Details :

Key	Value
Comprehension	MCQ1

7 அக்ஷரகாலங்கள்/ மாத்திரைகள் கொண்ட தாளத்தை தெரிவு செய்க.

1. ரூபகம் / தத்ரா
2. ஆதி / தீன்தாள்
3. சாபுதாளம் / ரூபக்
4. ஜம்பு தாளம் / ஜப்தாள்

Options :

485584134597. 1
485584134598. 2
485584134599. 3
485584134600. 4

Question Number : 286 Question Id : 48558433651 Question Type : MCQ Option Shuffling : No Is Question Mandatory : No Calculator : None Response Time : N.A Think Time : N.A Minimum Instruction Time : 0

Correct Marks : 5 Wrong Marks : 1

Question Key Details :

Key	Value
Comprehension	MCQ1

Select the Audava raga from the following:

1. Shankarabharanam
2. Kalyani
3. Sri Ranjani
4. Hindolam

Options :

485584134601. 1
485584134602. 2
485584134603. 3
485584134604. 4

Question Number : 286 Question Id : 48558433651 Question Type : MCQ Option Shuffling : No Is Question Mandatory : No Calculator : None Response Time : N.A Think Time : N.A Minimum Instruction Time : 0

Correct Marks : 5 Wrong Marks : 1

Question Key Details :

Key	Value
Comprehension	MCQ1

பின்வருவனவற்றில் ஓளடவ இராகத்தை தெரிவு செய்க.

1. சங்கராபரணம்
2. கல்யாணி
3. ஸ்ரீ ரஞ்சனி
4. ஹிந்தோளம்

Options :

485584134601. 1
485584134602. 2
485584134603. 3
485584134604. 4

Question Number : 287 Question Id : 48558433652 Question Type : MCQ Option Shuffling : No Is Question Mandatory : No Calculator : None Response Time : N.A Think Time : N.A Minimum Instruction Time : 0

Correct Marks : 5 Wrong Marks : 1

Question Key Details :

Key	Value
Comprehension	MCQ1

The sound emanating from the stringed instruments is known as:

1. Shareeraja
2. Lohaja
3. Charmaja
4. Vayuja

Options :

485584134605. 1
485584134606. 2
485584134607. 3
485584134608. 4

Question Number : 287 Question Id : 48558433652 Question Type : MCQ Option Shuffling : No Is Question Mandatory : No Calculator : None Response Time : N.A Think Time : N.A Minimum Instruction Time : 0

Correct Marks : 5 Wrong Marks : 1

Question Key Details :

Key	Value
Comprehension	MCQ1

கம்பியிடப்பட்ட கருவிகளிலிருந்து வெளிவரும் இசை ஒலி இவ்வாறு அழைக்கப்படும்:

1. ஷரீரஜம்
2. லோஹஜம்
3. சார்மஜம்
4. வாயுஜம்

Options :

485584134605. 1
485584134606. 2
485584134607. 3
485584134608. 4

Question Number : 288 Question Id : 48558433653 Question Type : MCQ Option Shuffling : No Is Question Mandatory : No Calculator : None Response Time : N.A Think Time : N.A Minimum Instruction Time : 0

Correct Marks : 5 Wrong Marks : 1

Question Key Details :

Key	Value
Comprehension	MCQ1

A musical form which needs high creative ability:

1. Kriti
2. Padam
3. Pallavi
4. Tillana

Options :

485584134609. 1
485584134610. 2
485584134611. 3
485584134612. 4

Question Number : 288 Question Id : 48558433653 Question Type : MCQ Option Shuffling : No Is Question Mandatory : No Calculator : None Response Time : N.A Think Time : N.A Minimum Instruction Time : 0

Correct Marks : 5 Wrong Marks : 1

Question Key Details :

Key	Value
Comprehension	MCQ1

அதிகமான ஆக்கத்திறன் தேவைப்படும் இசை வடிவம் என்பது:

1. க்ரிதி
2. பதம்
3. பல்லவி
4. தில்லானா

Options :

485584134609. 1
485584134610. 2
485584134611. 3
485584134612. 4

Question Number : 289 Question Id : 48558433654 Question Type : MCQ Option Shuffling : No Is Question Mandatory : No Calculator : None Response Time : N.A Think Time : N.A Minimum Instruction Time : 0

Correct Marks : 5 Wrong Marks : 1

Question Key Details :

Key	Value
Comprehension	MCQ1

Sa Re Ga Ma Pa Dha Ni swaras belong to:

1. Bhairavi Thata
2. Kafi Thata
3. Asavari Thata
4. Khamaj Thata

Options :

485584134613. 1
485584134614. 2
485584134615. 3
485584134616. 4

Question Number : 289 Question Id : 48558433654 Question Type : MCQ Option Shuffling : No Is Question Mandatory : No Calculator : None Response Time : N.A Think Time : N.A Minimum Instruction Time : 0

Correct Marks : 5 Wrong Marks : 1

Question Key Details :

Key	Value
Comprehension	MCQ1

ஸ, ரி, க, ம, ப, த, நி இதனுக்குரியன:

1. பைரவி தாட்டா
2. காஃபி தாட்டா
3. அஸாவேரி தாட்டா
4. கமாஸ் தாட்டா

Options :

485584134613. 1
485584134614. 2
485584134615. 3
485584134616. 4

Question Number : 290 Question Id : 48558433655 Question Type : MCQ Option Shuffling : No Is Question Mandatory : No Calculator : None Response Time : N.A Think Time : N.A Minimum Instruction Time : 0

Correct Marks : 5 Wrong Marks : 1

Question Key Details :

Key	Value
Comprehension	MCQ1

Select two 'THATA' / MELA from the following:

- A. Kalyan / Kalyani
- B. Malkauns / Hindolam
- C. Bhupali / Mohanam
- D. Bhairav / Mayamalavaganla
- E. Bageshree / Sriranjani

Choose the correct answer from the options given below:

- 1. A and B only
- 2. B and C only
- 3. A and D only
- 4. B and E only

Options :

- 485584134617. 1
- 485584134618. 2
- 485584134619. 3
- 485584134620. 4

Question Number : 290 Question Id : 48558433655 Question Type : MCQ Option Shuffling : No Is Question Mandatory : No Calculator : None Response Time : N.A Think Time : N.A Minimum Instruction Time : 0

Correct Marks : 5 Wrong Marks : 1

Question Key Details :

Key	Value
Comprehension	MCQ1

பின்வருவனவற்றில் இரு 'தாட்டா' / மேளாவை தேர்ந்தெடுக்கவும்:

- A. கல்யாண் / கல்யாணி
- B. மல்கெளன்ஸ் / ஹிந்தோளம்
- C. பூபாளி / மோஹனம்
- D. பைரவ் / மாயாமாளவகௌள
- E. பாகேஸ்ரீ / ஸ்ரீ ரஞ்சனி

கீழே தரப்பட்டுள்ள வாய்ப்புகளில் இருந்து சரியான விடையைத் தேர்ந்தெடுக்கவும்:

- 1. A மற்றும் B மட்டும்
- 2. B மற்றும் C மட்டும்
- 3. A மற்றும் D மட்டும்
- 4. B மற்றும் E மட்டும்

Options :

- 485584134617. 1
- 485584134618. 2
- 485584134619. 3
- 485584134620. 4

Question Number : 291 Question Id : 48558433656 Question Type : MCQ Option Shuffling : No Is Question Mandatory : No Calculator : None Response Time : N.A Think Time : N.A Minimum Instruction Time : 0

Correct Marks : 5 Wrong Marks : 1

Question Key Details :

Key	Value
Comprehension	MCQ1

Three qualities of Nad are:

- A. Swara
- B. Pitch
- C. Intensity
- D. Alankar
- E. Timbre

Choose the correct answer from the options given below:

- 1. A, B and C only
- 2. B, C and E only
- 3. A, D and E only
- 4. B, C and D only

Options :

- 485584134621. 1
- 485584134622. 2
- 485584134623. 3
- 485584134624. 4

Question Number : 291 Question Id : 48558433656 Question Type : MCQ Option Shuffling : No Is Question Mandatory : No Calculator : None Response Time : N.A Think Time : N.A Minimum Instruction Time : 0

Correct Marks : 5 Wrong Marks : 1

Question Key Details :

Key	Value
Comprehension	MCQ1

நாதத்தின் மூன்று தரக்கூறுகளான:

- A. ஸ்வரம்
- B. ஸ்ருதி
- C. செறிவு
- D. அலங்காரம்
- E. குரல் வளம்

கீழே தரப்பட்டுள்ள வாய்ப்புகளில் இருந்து சரியான விடையைத் தேர்ந்தெடுக்கவும்:

1. A, B மற்றும் C மட்டும்
2. B, C மற்றும் E மட்டும்
3. A, D மற்றும் E மட்டும்
4. B, C மற்றும் D மட்டும்

Options :

- 485584134621. 1
- 485584134622. 2
- 485584134623. 3
- 485584134624. 4

Question Number : 292 Question Id : 48558433657 Question Type : MCQ Option Shuffling : No Is Question Mandatory : No Calculator : None Response Time : N.A Think Time : N.A Minimum Instruction Time : 0

Correct Marks : 5 Wrong Marks : 1

Question Key Details :

Key	Value
Comprehension	MCQ1

Match List I with List II

LIST I		LIST II	
A.	Vilambit Khayal	I.	Tillana
B.	Tarana	II.	Kriti
C.	Thumri	III.	Maseetkhani Gat
D.	Khayal	IV.	Padam

Choose the correct answer from the options given below:

1. A-I, B-III, C-II, D-IV
2. A-II, B-I, C-IV, D-III
3. A-III, B-I, C-IV, D-II
4. A-IV, B-II, C-I, D-III

Options :

- 485584134625. 1
- 485584134626. 2
- 485584134627. 3
- 485584134628. 4

Question Number : 292 Question Id : 48558433657 Question Type : MCQ Option Shuffling : No Is Question Mandatory : No Calculator : None Response Time : N.A Think Time : N.A Minimum Instruction Time : 0
Correct Marks : 5 Wrong Marks : 1
Question Key Details :

Key	Value
Comprehension	MCQ1

பட்டியல் I ஐ பட்டியல் II உடன் பொருத்துக

பட்டியல் I		பட்டியல் II	
A.	விளம்பித் க்யால்	I.	தில்லானா
B.	தரானா	II.	க்ரிதி
C.	தும்ரி	III.	மசீத்கானி காத்
D.	காயல்	IV.	பாதம்

கீழே தரப்பட்டுள்ள வாய்ப்புகளில் இருந்து சரியான விடையைத் தேர்ந்தெடுக்கவும்:

1. A-I, B-III, C-II, D-IV
2. A-II, B-I, C-IV, D-III
3. A-III, B-I, C-IV, D-II
4. A-IV, B-II, C-I, D-III

Options :

485584134625. 1
485584134626. 2
485584134627. 3
485584134628. 4

Question Number : 293 Question Id : 48558433658 Question Type : MCQ Option Shuffling : No Is Question Mandatory : No Calculator : None Response Time : N.A Think Time : N.A Minimum Instruction Time : 0
Correct Marks : 5 Wrong Marks : 1
Question Key Details :

Key	Value
Comprehension	MCQ1

Match List I with List II

LIST I		LIST II	
A.	Nada	I.	Avroha
B.	Shruti	II.	Vivadi
C.	Swara	III.	Pramana
D.	Scale	IV.	Ahata

Choose the correct answer from the options given below:

1. A-I, B-II, C-III, D-IV
2. A-II, B-III, C-IV, D-I
3. A-III, B-IV, C-I, D-II
4. A-IV, B-III, C-II, D-I

Options :

485584134629. 1
485584134630. 2
485584134631. 3
485584134632. 4

Question Number : 293 Question Id : 48558433658 Question Type : MCQ Option Shuffling : No Is Question Mandatory : No Calculator : None Response Time : N.A Think Time : N.A Minimum Instruction Time : 0

Correct Marks : 5 Wrong Marks : 1

Question Key Details :

Key	Value
Comprehension	MCQ1

பட்டியல் I ஐ பட்டியல் II உடன் பொருத்துக

பட்டியல் I		பட்டியல் II	
A.	நாதம்	I.	அவரோஹம்
B.	ஸ்ருதி	II.	விவாதி
C.	ஸ்வரம்	III.	ப்ரமனா
D.	அளவுகோல்	IV.	அஹாடா

கீழே தரப்பட்டுள்ள வாய்ப்புகளில் இருந்து சரியான விடையைத் தேர்ந்தெடுக்கவும்:

1. A-I, B-II, C-III, D-IV
2. A-II, B-III, C-IV, D-I
3. A-III, B-IV, C-I, D-II
4. A-IV, B-III, C-II, D-I

Options :

485584134629. 1
485584134630. 2
485584134631. 3
485584134632. 4

Question Number : 294 Question Id : 48558433659 Question Type : MCQ Option Shuffling : No Is Question Mandatory : No Calculator : None Response Time : N.A Think Time : N.A Minimum Instruction Time : 0

Correct Marks : 5 Wrong Marks : 1

Question Key Details :

Key	Value
Comprehension	MCQ1

Arrange the Talas according to their ascending order of Matras:

- A. Ektala
- B. Keharwa
- C. Dadra
- D. Jhaptala
- E. Teentala

Choose the correct answer from the options given below:

- 1. A, B, C, D, E
- 2. A, C, B, D, E
- 3. C, B, D, A, E
- 4. C, B, A, D, E

Options :

- 485584134633. 1
- 485584134634. 2
- 485584134635. 3
- 485584134636. 4

Question Number : 294 Question Id : 48558433659 Question Type : MCQ Option Shuffling : No Is Question Mandatory : No Calculator : None Response Time : N.A Think Time : N.A Minimum Instruction Time : 0

Correct Marks : 5 Wrong Marks : 1

Question Key Details :

Key	Value
Comprehension	MCQ1

மாத்திரைகளின் ஏறுவரிசையில் தாளங்களை வரிசைப்படுத்துக:

- A. ஏக்தாளம்
- B. கெஹர்வா
- C. தாத்ரா
- D. ஜப்தாளம்
- E. தீன்தாளம்

கீழே தரப்பட்டுள்ள வாய்ப்புகளில் இருந்து சரியான விடையைத் தேர்ந்தெடுக்கவும்:

- 1. A, B, C, D, E
- 2. A, C, B, D, E
- 3. C, B, D, A, E
- 4. C, B, A, D, E

Options :

- 485584134633. 1
- 485584134634. 2
- 485584134635. 3
- 485584134636. 4

Question Number : 295 Question Id : 48558433660 Question Type : MCQ Option Shuffling : No Is Question Mandatory : No Calculator : None Response Time : N.A Think Time : N.A Minimum Instruction Time : 0

Correct Marks : 5 Wrong Marks : 1

Question Key Details :

Key	Value
Comprehension	MCQ1

Arrange the swaras of Raga Bhupali / Mohanam according to its Avaroha:

- A. Pa
- B. Re
- C. Ga
- D. Dha
- E. Sa

Choose the correct answer from the options given below:

- 1. A, B, C, E, D
- 2. D, A, C, B, E
- 3. E, B, C, A, D
- 4. E, D, A, C, B

Options :

- 485584134637. 1
- 485584134638. 2
- 485584134639. 3
- 485584134640. 4

Question Number : 295 Question Id : 48558433660 Question Type : MCQ Option Shuffling : No Is Question Mandatory : No Calculator : None Response Time : N.A Think Time : N.A Minimum Instruction Time : 0
Correct Marks : 5 Wrong Marks : 1
Question Key Details :

Key	Value
Comprehension	MCQ1

இராகம் பூபாளி / மோஹனம் என்பதன் ஸ்பரங்களை அதன் அவரோஹனத்தின் அடிப்படையில் வரிசைப்படுத்துக:

- A. ப
- B. ரி
- C. க
- D. த
- E. ஸ

கீழே தரப்பட்டுள்ள வாய்ப்புகளில் இருந்து சரியான விடையைத் தேர்ந்தெடுக்கவும்:

- 1. A, B, C, E, D
- 2. D, A, C, B, E
- 3. E, B, C, A, D
- 4. E, D, A, C, B

Options :

- 485584134637. 1
- 485584134638. 2
- 485584134639. 3
- 485584134640. 4

Dance

Section Id :	485584864
Section Number :	3
Section type :	Online
Mandatory or Optional :	Optional
Number of Questions :	25
Number of Questions to be attempted :	20
Section Marks :	100
Enable Mark as Answered Mark for Review and Clear Response :	Yes
Maximum Instruction Time :	0
Sub-Section Number :	1
Sub-Section Id :	4855842439
Question Shuffling Allowed :	Yes
Is Section Default? :	null

Question Number : 296 Question Id : 48558433661 Question Type : MCQ Option Shuffling : No Is Question Mandatory : No Calculator : None Response Time : N.A Think Time : N.A Minimum Instruction Time : 0
Correct Marks : 5 Wrong Marks : 1
Question Key Details :

Key	Value
Comprehension	MCQ2

"Uddipan" and "Aalamban" are the types of -

1. Vibhav
2. Anubhav
3. Aangik
4. Vachik

Options :

485584134641. 1
485584134642. 2
485584134643. 3
485584134644. 4

Question Number : 296 Question Id : 48558433661 Question Type : MCQ Option Shuffling : No Is Question Mandatory : No Calculator : None Response Time : N.A Think Time : N.A Minimum Instruction Time : 0

Correct Marks : 5 Wrong Marks : 1

Question Key Details :

Key	Value
Comprehension	MCQ2

"உத்திப்பன்" மற்றும் "ஆலம்பன்" என்பவை இதன் வகைகளாகும்

1. விபவ்
2. அனுபவ்
3. ஆங்கிக்
4. வாச்சிக்

Options :

485584134641. 1
485584134642. 2
485584134643. 3
485584134644. 4

Question Number : 297 Question Id : 48558433662 Question Type : MCQ Option Shuffling : No Is Question Mandatory : No Calculator : None Response Time : N.A Think Time : N.A Minimum Instruction Time : 0

Correct Marks : 5 Wrong Marks : 1

Question Key Details :

Key	Value
Comprehension	MCQ2

What is the make-up artist's process called who applies cutti or chutti on actor-dancer's face in Kathakali?

1. Kattalan
2. Pitham
3. Chuttikaran
4. Talavattam

Options :

485584134645. 1
485584134646. 2
485584134647. 3
485584134648. 4

Question Number : 297 Question Id : 48558433662 Question Type : MCQ Option Shuffling : No Is Question Mandatory : No Calculator : None Response Time : N.A Think Time : N.A Minimum Instruction Time : 0

Correct Marks : 5 Wrong Marks : 1

Question Key Details :

Key	Value
Comprehension	MCQ2

கதகளியில் நடிகர்-நாட்டியம் ஆடுபவரது முகத்தில் சுட்டி அல்லது சூட்டி அளிக்கப்படும் ஒப்பனைக் கலைஞரது நடைமுறை இவ்வாறு அழைக்கப்படும்?

1. கட்டாளன்
2. பித்தம்
3. சுட்டிக்காரன்
4. தலவட்டம்

Options :

485584134645. 1
485584134646. 2
485584134647. 3
485584134648. 4

Question Number : 298 Question Id : 48558433663 Question Type : MCQ Option Shuffling : No Is Question Mandatory : No Calculator : None Response Time : N.A Think Time : N.A Minimum Instruction Time : 0

Correct Marks : 5 Wrong Marks : 1

Question Key Details :

Key	Value
Comprehension	MCQ2

"Abhinaya Chandrika" text is followed by -

1. Manipuri dancers
2. Odissi dancers
3. Kathakali dancers
4. Kathak dancers

Options :

485584134649. 1
485584134650. 2
485584134651. 3
485584134652. 4

Question Number : 298 Question Id : 48558433663 Question Type : MCQ Option Shuffling : No Is Question Mandatory : No Calculator : None Response Time : N.A Think Time : N.A Minimum Instruction Time : 0

Correct Marks : 5 Wrong Marks : 1

Question Key Details :

Key	Value
Comprehension	MCQ2

"அபினய சந்திரிகா" எனும் நூல் இவர்களால் பின்பற்றப்படுகிறது:

1. மணிப்பூரி நடனமாடுபவர்கள்
2. ஒடிஸி நடனமாடுபவர்கள்
3. கதகளி நடனமாடுபவர்கள்
4. கதக் நடனமாடுபவர்கள்

Options :

485584134649. 1
485584134650. 2
485584134651. 3
485584134652. 4

Question Number : 299 Question Id : 48558433664 Question Type : MCQ Option Shuffling : No Is Question Mandatory : No Calculator : None Response Time : N.A Think Time : N.A Minimum Instruction Time : 0

Correct Marks : 5 Wrong Marks : 1

Question Key Details :

Key	Value
Comprehension	MCQ2

Which among the following is the famous 'couple dancer' of Kuchipudi dance style?

1. Singhajeet Singh and Charu Singh
2. Maulik Shah and Ishira Parekh
3. Raja and Radha Reddy
4. V. P. Dhananjayan and Shanta Dhananjayan

Options :

485584134653. 1
485584134654. 2
485584134655. 3
485584134656. 4

Question Number : 299 Question Id : 48558433664 Question Type : MCQ Option Shuffling : No Is Question Mandatory : No Calculator : None Response Time : N.A Think Time : N.A Minimum Instruction Time : 0

Correct Marks : 5 Wrong Marks : 1

Question Key Details :

Key	Value
Comprehension	MCQ2

பின்வருபவர்களுள் எந்த 'நடன ஜோடி' குச்சுப்புடி நடன பாங்கிற்கென பெயர் போனவர்கள்?

1. சிங்கஜித் சிங் மற்றும் சாரு சிங்
2. மௌலிக் ஷா மற்றும் இஷாரா பரேக்
3. இராஜா மற்றும் இராதா இரெட்டி
4. வி.பி தனஜ்ஜெயன் மற்றும் சாந்தா தனஞ்ஜெயன்

Options :

485584134653. 1
485584134654. 2
485584134655. 3
485584134656. 4

Question Number : 300 Question Id : 48558433665 Question Type : MCQ Option Shuffling : No Is Question Mandatory : No Calculator : None Response Time : N.A Think Time : N.A Minimum Instruction Time : 0

Correct Marks : 5 Wrong Marks : 1

Question Key Details :

Key	Value
Comprehension	MCQ2

Who is a Sattriya exponent among the following?

1. Jatin Goswami
2. V. P. Dhananjaya
3. Charan Girdhar Chand
4. Shashdhar Acharya

Options :

485584134657. 1
485584134658. 2
485584134659. 3
485584134660. 4

Question Number : 300 Question Id : 48558433665 Question Type : MCQ Option Shuffling : No Is Question Mandatory : No Calculator : None Response Time : N.A Think Time : N.A Minimum Instruction Time : 0

Correct Marks : 5 Wrong Marks : 1

Question Key Details :

Key	Value
Comprehension	MCQ2

பின்வருபவர்களில் சட்ரியா நிபுணத்துவம் கொண்டவர் யார்?

1. ஜதின் கோஸ்வாமி
2. வி.பி தனஞ்ஜெயா
3. சரண் கிர்தர் சந்த்
4. ஷஷ்தர் ஆச்சார்யா

Options :

485584134657. 1
485584134658. 2
485584134659. 3
485584134660. 4

Question Number : 301 Question Id : 48558433666 Question Type : MCQ Option Shuffling : No Is Question Mandatory : No Calculator : None Response Time : N.A Think Time : N.A Minimum Instruction Time : 0

Correct Marks : 5 Wrong Marks : 1

Question Key Details :

Key	Value
Comprehension	MCQ2

What are head movements called in Abhinayadarpanam?

1. Shirobheda
2. Padabheda
3. Hastabheda
4. Drishtibheda

Options :

485584134661. 1
485584134662. 2
485584134663. 3
485584134664. 4

Question Number : 301 Question Id : 48558433666 Question Type : MCQ Option Shuffling : No Is Question Mandatory : No Calculator : None Response Time : N.A Think Time : N.A Minimum Instruction Time : 0

Correct Marks : 5 Wrong Marks : 1

Question Key Details :

Key	Value
Comprehension	MCQ2

அபிநயதர்ப்பணத்தில் வரக்கூடிய தலை அசைவுகள் இவ்வாறு அழைக்கப்படும்:

1. சிரோபேதா
2. பாத பேதா
3. ஹஸ்தபேதா
4. த்ருஷ்டிபேதா

Options :

485584134661. 1
485584134662. 2
485584134663. 3
485584134664. 4

Question Number : 302 Question Id : 48558433667 Question Type : MCQ Option Shuffling : No Is Question Mandatory : No Calculator : None Response Time : N.A Think Time : N.A Minimum Instruction Time : 0

Correct Marks : 5 Wrong Marks : 1

Question Key Details :

Key	Value
Comprehension	MCQ2

Which is the oldest university with Dance and Music Departments in Gujarat?

1. Benaras Hindu University
2. Rabindra Bharati University
3. The Maharaja Sayajirao university
4. Raja Mansingh Tomar University

Options :

485584134665. 1
485584134666. 2
485584134667. 3
485584134668. 4

Question Number : 302 Question Id : 48558433667 Question Type : MCQ Option Shuffling : No Is Question Mandatory : No Calculator : None Response Time : N.A Think Time : N.A Minimum Instruction Time : 0

Correct Marks : 5 Wrong Marks : 1

Question Key Details :

Key	Value
Comprehension	MCQ2

குஜராத்தில் நடனம் மற்றும் இசைத்துறைகளைக் கொண்டுள்ள மிகப் பழைமையான பல்கலைக்கழகம் எது?

1. பனாரஸ் ஹிந்து பல்கலைக்கழகம்
2. இரபீந்திர பாரதி பல்கலைக்கழகம்
3. தி மஹாராஜா சயாஜிராவ் பல்கலைக்கழகம்
4. இராஜா மான்சிங் தோமர் பல்கலைக்கழகம்

Options :

485584134665. 1
485584134666. 2
485584134667. 3
485584134668. 4

Question Number : 303 Question Id : 48558433668 Question Type : MCQ Option Shuffling : No Is Question Mandatory : No Calculator : None Response Time : N.A Think Time : N.A Minimum Instruction Time : 0

Correct Marks : 5 Wrong Marks : 1

Question Key Details :

Key	Value
Comprehension	MCQ2

"Gat" and "Gat Bhaav" are the items of which classical dance form?

1. Kathakali
2. Sattriya
3. Kathak
4. Bharatanatyam

Options :

485584134669. 1
485584134670. 2
485584134671. 3
485584134672. 4

Question Number : 303 Question Id : 48558433668 Question Type : MCQ Option Shuffling : No Is Question Mandatory : No Calculator : None Response Time : N.A Think Time : N.A Minimum Instruction Time : 0

Correct Marks : 5 Wrong Marks : 1

Question Key Details :

Key	Value
Comprehension	MCQ2

"காத்" மற்றும் "காத் பாவ்" என்பன எந்த பாரம்பரிய நடன வடிவத்தின் அங்கங்களாகும்?

1. கதகளி
2. சட்ரியா
3. கதக்
4. பரதநாட்டியம்

Options :

485584134669. 1
485584134670. 2
485584134671. 3
485584134672. 4

Question Number : 304 Question Id : 48558433669 Question Type : MCQ Option Shuffling : No Is Question Mandatory : No Calculator : None Response Time : N.A Think Time : N.A Minimum Instruction Time : 0

Correct Marks : 5 Wrong Marks : 1

Question Key Details :

Key	Value
Comprehension	MCQ2

What is head gear called in Kathakali aharya?

1. Kalari
2. Sopanam
3. Kiritam
4. Vesham

Options :

485584134673. 1
485584134674. 2
485584134675. 3
485584134676. 4

Question Number : 304 Question Id : 48558433669 Question Type : MCQ Option Shuffling : No Is Question Mandatory : No Calculator : None Response Time : N.A Think Time : N.A Minimum Instruction Time : 0

Correct Marks : 5 Wrong Marks : 1

Question Key Details :

Key	Value
Comprehension	MCQ2

கதகளி ஆஹர்யத்திலான தலைப்பாகை இவ்வாறு அழைக்கப்படும்?

1. களரி
2. ஸோபனம்
3. கிரீடம்
4. வேஷம்

Options :

485584134673. 1
485584134674. 2
485584134675. 3
485584134676. 4

Question Number : 305 Question Id : 48558433670 Question Type : MCQ Option Shuffling : No Is Question Mandatory : No Calculator : None Response Time : N.A Think Time : N.A Minimum Instruction Time : 0

Correct Marks : 5 Wrong Marks : 1

Question Key Details :

Key	Value
Comprehension	MCQ2

'Geetam Vadyam tatha Nrityam tryam _____ muchyate' indicates:

1. Tandava
2. Nritta
3. Lasya
4. Sangeet

Options :

485584134677. 1
485584134678. 2
485584134679. 3
485584134680. 4

Question Number : 305 Question Id : 48558433670 Question Type : MCQ Option Shuffling : No Is Question Mandatory : No Calculator : None Response Time : N.A Think Time : N.A Minimum Instruction Time : 0

Correct Marks : 5 Wrong Marks : 1

Question Key Details :

Key	Value
Comprehension	MCQ2

'கீதம் வாத்யம் ததா ந்ரித்யம் த்ரியம் _____ முச்யதே'

1. தாண்டவ
2. ந்ரிட்ட
3. லாஸ்ய
4. சங்கீத்

Options :

485584134677. 1
485584134678. 2
485584134679. 3
485584134680. 4

Question Number : 306 Question Id : 48558433671 Question Type : MCQ Option Shuffling : No Is Question Mandatory : No Calculator : None Response Time : N.A Think Time : N.A Minimum Instruction Time : 0

Correct Marks : 5 Wrong Marks : 1

Question Key Details :

Key	Value
Comprehension	MCQ2

What is the stylised representation called according to Natyashastra?

1. Bharati
2. Kaishiki
3. Vrittis
4. Natyadharmi

Options :

485584134681. 1
485584134682. 2
485584134683. 3
485584134684. 4

Question Number : 306 Question Id : 48558433671 Question Type : MCQ Option Shuffling : No Is Question Mandatory : No Calculator : None Response Time : N.A Think Time : N.A Minimum Instruction Time : 0

Correct Marks : 5 Wrong Marks : 1

Question Key Details :

Key	Value
Comprehension	MCQ2

நாட்டியசாஸ்திரத்தின்படி, பாங்குடன் அல்லது பாணியுடன் கூடிய வெளிப்பாடு எவ்வாறு அழைக்கப்படும்?

1. பாரதி
2. கைஷிகி
3. வ்ரித்திஸ்
4. நாட்யதார்மி

Options :

485584134681. 1
485584134682. 2
485584134683. 3
485584134684. 4

Question Number : 307 Question Id : 48558433672 Question Type : MCQ Option Shuffling : No Is Question Mandatory : No Calculator : None Response Time : N.A Think Time : N.A Minimum Instruction Time : 0

Correct Marks : 5 Wrong Marks : 1

Question Key Details :

Key	Value
Comprehension	MCQ2

Chandra-Surya-Rakudi are worn by the dancer of :

1. Kathak
2. Bharatanatyam
3. Manipuri
4. Odissi

Options :

485584134685. 1
485584134686. 2
485584134687. 3
485584134688. 4

Question Number : 307 Question Id : 48558433672 Question Type : MCQ Option Shuffling : No Is Question Mandatory : No Calculator : None Response Time : N.A Think Time : N.A Minimum Instruction Time : 0

Correct Marks : 5 Wrong Marks : 1

Question Key Details :

Key	Value
Comprehension	MCQ2

சந்திர-சூர்யா-ராக்கோடிகளைச் சூடும் நடனவல்லுவர்கள்:

1. கதக்
2. பரதநாட்டியம்
3. மணிப்பூரி
4. ஒடிஸி

Options :

485584134685. 1
485584134686. 2
485584134687. 3
485584134688. 4

Question Number : 308 Question Id : 48558433673 Question Type : MCQ Option Shuffling : No Is Question Mandatory : No Calculator : None Response Time : N.A Think Time : N.A Minimum Instruction Time : 0

Correct Marks : 5 Wrong Marks : 1

Question Key Details :

Key	Value
Comprehension	MCQ2

Which abhinaya comprises rendering of text and lyrics according to Bharata?

1. Vachika
2. Angika
3. Aharya
4. Satvika

Options :

485584134689. 1
485584134690. 2
485584134691. 3
485584134692. 4

Question Number : 308 Question Id : 48558433673 Question Type : MCQ Option Shuffling : No Is Question Mandatory : No Calculator : None Response Time : N.A Think Time : N.A Minimum Instruction Time : 0

Correct Marks : 5 Wrong Marks : 1

Question Key Details :

Key	Value
Comprehension	MCQ2

பரத்தின் அடிப்படையில், நூல் பாடம் மற்றும் பாசுரம் ஆகியவற்றை வழங்கும் பாணியைக் கொண்டிருக்கும் அபிநயம் எது?

1. வாச்சிக
2. அங்கிக
3. அஹார்ய
4. சாத்விக்

Options :

485584134689. 1
485584134690. 2
485584134691. 3
485584134692. 4

Question Number : 309 Question Id : 48558433674 Question Type : MCQ Option Shuffling : No Is Question Mandatory : No Calculator : None Response Time : N.A Think Time : N.A Minimum Instruction Time : 0

Correct Marks : 5 Wrong Marks : 1

Question Key Details :

Key	Value
Comprehension	MCQ2

In which dance, performers perform the compositions of Mahant Shankar Dev?

1. Mohiniattam
2. Kathak
3. Sattriya
4. Kuchipudi

Options :

485584134693. 1
485584134694. 2
485584134695. 3
485584134696. 4

Question Number : 309 Question Id : 48558433674 Question Type : MCQ Option Shuffling : No Is Question Mandatory : No Calculator : None Response Time : N.A Think Time : N.A Minimum Instruction Time : 0

Correct Marks : 5 Wrong Marks : 1

Question Key Details :

Key	Value
Comprehension	MCQ2

மஹந்த் சங்கர் தேவ் என்பவரின் தொகுப்புகளை நிகழ்த்தும் நடனக் கலைஞர் எந்த நடனம் ஆடுபவர் ஆவார்?

1. மோஹினி ஆட்டம்
2. கதக்
3. சட்ரியா
4. குச்சிப்புடி

Options :

485584134693. 1
485584134694. 2
485584134695. 3
485584134696. 4

Question Number : 310 Question Id : 48558433675 Question Type : MCQ Option Shuffling : No Is Question Mandatory : No Calculator : None Response Time : N.A Think Time : N.A Minimum Instruction Time : 0

Correct Marks : 5 Wrong Marks : 1

Question Key Details :

Key	Value
Comprehension	MCQ2

What is the earthen pot musical instrument called?

1. Ghatam
2. Morsing
3. Nattuva talam
4. Gajje

Options :

485584134697. 1
485584134698. 2
485584134699. 3
485584134700. 4

Question Number : 310 Question Id : 48558433675 Question Type : MCQ Option Shuffling : No Is Question Mandatory : No Calculator : None Response Time : N.A Think Time : N.A Minimum Instruction Time : 0

Correct Marks : 5 Wrong Marks : 1

Question Key Details :

Key	Value
Comprehension	MCQ2

மண் பாளையில் ஆன இசைக்கருவி எவ்வாறு அழைக்கப்படுகிறது?

1. கடம்
2. மோர்ஸிங்
3. நட்டுவ தாளம்
4. கஞ்சீரா

Options :

485584134697. 1
485584134698. 2
485584134699. 3
485584134700. 4

Question Number : 311 Question Id : 48558433676 Question Type : MCQ Option Shuffling : No Is Question Mandatory : No Calculator : None Response Time : N.A Think Time : N.A Minimum Instruction Time : 0

Correct Marks : 5 Wrong Marks : 1

Question Key Details :

Key	Value
Comprehension	MCQ2

Percussion instruments used in classical dances:

- A. Dholak
- B. Tabla
- C. Mridangam
- D. Dholaki
- E. Khol

Choose the answer from the options given below:

1. A, C, D only
2. A, B, C only
3. A, D, E only
4. B, C, E only

Options :

- 485584134701. 1
- 485584134702. 2
- 485584134703. 3
- 485584134704. 4

Question Number : 311 Question Id : 48558433676 Question Type : MCQ Option Shuffling : No Is Question Mandatory : No Calculator : None Response Time : N.A Think Time : N.A Minimum Instruction Time : 0

Correct Marks : 5 Wrong Marks : 1

Question Key Details :

Key	Value
Comprehension	MCQ2

பாரம்பரிய நடனங்களில் பயன்படுத்தப்படும் தாளக் கருவிகள் என்பன:

- A. டோலக்
- B. தபளா
- C. மிருதங்கம்
- D. தோலகி
- E. கோல்

கீழே தரப்பட்டுள்ள வாய்ப்புகளில் இருந்து சரியான விடையைத் தேர்ந்தெடுக்கவும்:

1. A, C, D மட்டும்
2. A, B, C மட்டும்
3. A, D, E மட்டும்
4. B, C, E மட்டும்

Options :

- 485584134701. 1
- 485584134702. 2
- 485584134703. 3
- 485584134704. 4

Question Number : 312 Question Id : 48558433677 Question Type : MCQ Option Shuffling : No Is Question Mandatory : No Calculator : None Response Time : N.A Think Time : N.A Minimum Instruction Time : 0

Correct Marks : 5 Wrong Marks : 1

Question Key Details :

Key	Value
Comprehension	MCQ2

Lasya dance is characterised as:

- A. Forceful
- B. Delicate
- C. Graceful
- D. Gentle
- E. Bold

Choose the correct answer from the options given below:

- 1. A, C, E only
- 2. B, C, D only
- 3. B, D, E only
- 4. A, B, D only

Options :

- 485584134705. 1
- 485584134706. 2
- 485584134707. 3
- 485584134708. 4

Question Number : 312 Question Id : 48558433677 Question Type : MCQ Option Shuffling : No Is Question Mandatory : No Calculator : None Response Time : N.A Think Time : N.A Minimum Instruction Time : 0

Correct Marks : 5 Wrong Marks : 1

Question Key Details :

Key	Value
Comprehension	MCQ2

லாஸ்யா நடனம் பெற்றிருக்கும் அம்சம் என்பன:

- A. வேகத்துடன்கூடிய தன்மை
- B. நளினத்தன்மை
- C. கருணை ததும்பும் தன்மை
- D. மென்மைத்தன்மை
- E. வலுப்பெற்ற தன்மை

கீழே தரப்பட்டுள்ள வாய்ப்புகளில் இருந்து சரியான விடையைத் தேர்ந்தெடுக்கவும்:

- 1. A, C, E மட்டும்
- 2. B, C, D மட்டும்
- 3. B, D, E மட்டும்
- 4. A, B, D மட்டும்

Options :

- 485584134705. 1
- 485584134706. 2
- 485584134707. 3
- 485584134708. 4

Question Number : 313 Question Id : 48558433678 Question Type : MCQ Option Shuffling : No Is Question Mandatory : No Calculator : None Response Time : N.A Think Time : N.A Minimum Instruction Time : 0

Correct Marks : 5 Wrong Marks : 1

Question Key Details :

Key	Value
Comprehension	MCQ2

Trace three "Sthayi Bhaav" from the following:

- A. Rati
- B. Nirveda
- C. Krodh
- D. Aalamban
- E. Uddipan

Choose the correct answer from the options given below:

- 1. A, D, E only
- 2. A, B, C only
- 3. C, D, E only
- 4. B, D, E only

Options :

- 485584134709. 1
- 485584134710. 2
- 485584134711. 3

485584134712. 4

Question Number : 313 Question Id : 48558433678 Question Type : MCQ Option Shuffling : No Is Question Mandatory : No Calculator : None Response Time : N.A Think Time : N.A Minimum Instruction Time : 0

Correct Marks : 5 Wrong Marks : 1

Question Key Details :

Key	Value
Comprehension	MCQ2

பின்வருவனவற்றிலிருந்து மூன்று "ஸ்தாயி பாவங்களைக்" கண்டறிக:

- A. ராதி
- B. நிர்வேதா
- C. க்ரோத
- D. ஆலம்பனம்
- E. உத்திப்பனம்

கீழே தரப்பட்டுள்ள வாய்ப்புகளில் இருந்து சரியான விடையைத் தேர்ந்தெடுக்கவும்:

1. A, D, E மட்டும்
2. A, B, C மட்டும்
3. C, D, E மட்டும்
4. B, D, E மட்டும்

Options :

- 485584134709. 1
- 485584134710. 2
- 485584134711. 3
- 485584134712. 4

Question Number : 314 Question Id : 48558433679 Question Type : MCQ Option Shuffling : No Is Question Mandatory : No Calculator : None Response Time : N.A Think Time : N.A Minimum Instruction Time : 0

Correct Marks : 5 Wrong Marks : 1

Question Key Details :

Key	Value
Comprehension	MCQ2

Choose rasas from the following:

- A. Tandava
- B. Hasya
- C. Beebhatsa
- D. Lasya
- E. Bhayanaka

Choose the correct answer from the options given below:

- 1. A, C, E only
- 2. B, D, E only
- 3. A, C, D only
- 4. B, C, E only

Options :

- 485584134713. 1
- 485584134714. 2
- 485584134715. 3
- 485584134716. 4

Question Number : 314 Question Id : 48558433679 Question Type : MCQ Option Shuffling : No Is Question Mandatory : No Calculator : None Response Time : N.A Think Time : N.A Minimum Instruction Time : 0

Correct Marks : 5 Wrong Marks : 1

Question Key Details :

Key	Value
Comprehension	MCQ2

பின்வருவனவற்றிலிருந்து ரசங்களை தெரிவு செய்க:

- A. தாண்டவ
- B. ஹாஸ்ய
- C. பீபட்ஸ
- D. லாஸ்ய
- E. பயானக

கீழே தரப்பட்டுள்ள வாய்ப்புகளில் இருந்து சரியான விடையைத் தேர்ந்தெடுக்கவும்:

- 1. A, C, E மட்டும்
- 2. B, D, E மட்டும்
- 3. A, C, D மட்டும்
- 4. B, C, E மட்டும்

Options :

- 485584134713. 1
- 485584134714. 2
- 485584134715. 3
- 485584134716. 4

Question Number : 315 Question Id : 48558433680 Question Type : MCQ Option Shuffling : No Is Question Mandatory : No Calculator : None Response Time : N.A Think Time : N.A Minimum Instruction Time : 0

Correct Marks : 5 Wrong Marks : 1

Question Key Details :

Key	Value
Comprehension	MCQ2

Which two are not "Rasa" from among the following?

- A. Aashcharya
- B. Adbhut
- C. Nirveda
- D. Karuna
- E. Roudra

Choose the correct answer from the options given below:

- 1. A and C only
- 2. A and D only
- 3. B and D only
- 4. A and E only

Options :

- 485584134717. 1
- 485584134718. 2
- 485584134719. 3
- 485584134720. 4

Question Number : 315 Question Id : 48558433680 Question Type : MCQ Option Shuffling : No Is Question Mandatory : No Calculator : None Response Time : N.A Think Time : N.A Minimum Instruction Time : 0

Correct Marks : 5 Wrong Marks : 1

Question Key Details :

Key	Value
Comprehension	MCQ2

பின்வருவனவற்றுள் எந்த இரண்டு ரசங்களாக அமையாதது?

- A. ஆஷ்சர்யா
- B. அத்புத
- C. நிர்வேத
- D. கருணா
- E. ரௌத்ர

கீழே தரப்பட்டுள்ள வாய்ப்புகளில் இருந்து சரியான விடையைத் தேர்ந்தெடுக்கவும்:

1. A மற்றும் C மட்டும்
2. A மற்றும் D மட்டும்
3. B மற்றும் D மட்டும்
4. A மற்றும் E மட்டும்

Options :

- 485584134717. 1
- 485584134718. 2
- 485584134719. 3
- 485584134720. 4

Question Number : 316 Question Id : 48558433681 Question Type : MCQ Option Shuffling : No Is Question Mandatory : No Calculator : None Response Time : N.A Think Time : N.A Minimum Instruction Time : 0

Correct Marks : 5 Wrong Marks : 1

Question Key Details :

Key	Value
Comprehension	MCQ2

Match List I with List II

LIST I		LIST II	
A.	Haas	I.	Veer
B.	Utsah	II.	Hasya
C.	Rati	III.	Karun
D.	Shoka	IV.	Shringar

Choose the correct answer from the options given below:

1. A-I, B-II, C-III, D-IV
2. A-II, B-III, C-I, D-IV
3. A-II, B-I, C-IV, D-III
4. A-IV, B-III, C-II, D-I

Options :

- 485584134721. 1
- 485584134722. 2
- 485584134723. 3
- 485584134724. 4

Question Number : 316 Question Id : 48558433681 Question Type : MCQ Option Shuffling : No Is Question Mandatory : No Calculator : None Response Time : N.A Think Time : N.A Minimum Instruction Time : 0
Correct Marks : 5 Wrong Marks : 1

Question Key Details :

Key	Value
Comprehension	MCQ2

பட்டியல் I ஐ பட்டியல் II உடன் பொருத்துக

பட்டியல் I		பட்டியல் II	
A.	ஹாஸ்	I.	வீர்
B.	உத்சாஹ்	II.	ஹாஸ்ய
C.	ராதி	III.	கருணா
D.	ஷோக	IV.	ஷ்ருங்கார்

கீழே தரப்பட்டுள்ள வாய்ப்புகளில் இருந்து சரியான விடையைத் தேர்ந்தெடுக்கவும்:

1. A-I, B-II, C-III, D-IV
2. A-II, B-III, C-I, D-IV
3. A-II, B-I, C-IV, D-III
4. A-IV, B-III, C-II, D-I

Options :

485584134721. 1
485584134722. 2
485584134723. 3
485584134724. 4

Question Number : 317 Question Id : 48558433682 Question Type : MCQ Option Shuffling : No Is Question Mandatory : No Calculator : None Response Time : N.A Think Time : N.A Minimum Instruction Time : 0
Correct Marks : 5 Wrong Marks : 1

Question Key Details :

Key	Value
Comprehension	MCQ2

Match List I with List II

LIST I		LIST II	
A.	Alarippu	I.	Kathak
B.	Pallavi	II.	Odissi
C.	Jiva	III.	Bharatanatyam
D.	Tarana	IV.	Mohiniattam

Choose the correct answer from the options given below:

1. A-III, B-II, C-IV, D-I
2. A-II, B-I, C-III, D-IV
3. A-IV, B-III, C-II, D-I
4. A-I, B-III, C-II, D-IV

Options :

485584134725. 1
485584134726. 2
485584134727. 3
485584134728. 4

Question Number : 317 Question Id : 48558433682 Question Type : MCQ Option Shuffling : No Is Question Mandatory : No Calculator : None Response Time : N.A Think Time : N.A Minimum Instruction Time : 0

Correct Marks : 5 Wrong Marks : 1

Question Key Details :

Key	Value
Comprehension	MCQ2

பட்டியல் I ஐ பட்டியல் II உடன் பொருத்துக

பட்டியல் I		பட்டியல் II	
A.	அலரிப்பு	I.	கதக்
B.	பல்லவி	II.	ஒடிஸி
C.	ஜீவா	III.	பரதநாட்டியம்
D.	தாரண	IV.	மோஹினி ஆட்டம்

கீழே தரப்பட்டுள்ள வாய்ப்புகளில் இருந்து சரியான விடையைத் தேர்ந்தெடுக்கவும்:

1. A-III, B-II, C-IV, D-I
2. A-II, B-I, C-III, D-IV
3. A-IV, B-III, C-II, D-I
4. A-I, B-III, C-II, D-IV

Options :

485584134725. 1
485584134726. 2
485584134727. 3
485584134728. 4

Question Number : 318 Question Id : 48558433683 Question Type : MCQ Option Shuffling : No Is Question Mandatory : No Calculator : None Response Time : N.A Think Time : N.A Minimum Instruction Time : 0

Correct Marks : 5 Wrong Marks : 1

Question Key Details :

Key	Value
Comprehension	MCQ2

Match List I with List II

LIST I		LIST II	
A.	Cause - Determinants	I.	Vyabichari bhava
B.	Consequences-reactions	II.	Rasa
C.	Complementary expression	III.	Vibhava
D.	Sentiment	IV.	Anubhava

Choose the correct answer from the options given below:

1. A-II, B-I, C-III, D-IV
2. A-III, B-IV, C-I, D-II
3. A-IV, B-II, C-III, D-I
4. A-I, B-III, C-II, D-IV

Options :

- 485584134729. 1
- 485584134730. 2
- 485584134731. 3
- 485584134732. 4

Question Number : 318 Question Id : 48558433683 Question Type : MCQ Option Shuffling : No Is Question Mandatory : No Calculator : None Response Time : N.A Think Time : N.A Minimum Instruction Time : 0

Correct Marks : 5 Wrong Marks : 1

Question Key Details :

Key	Value
Comprehension	MCQ2

பட்டியல் I ஐ பட்டியல் II உடன் பொருத்துக

பட்டியல் I		பட்டியல் II	
A.	காரணம் - நிர்ணயிக்கப்பட்டவைகள்	I.	வ்யாபிச்சாரி பாவம்
B.	விளைவுகள் - எதிர்வினைகள்	II.	ரசம்
C.	எதிர்வினை வெளிப்பாடு	III.	விபாவம்
D.	தொடர்புடைய எண்ணப்போக்கு	IV.	அனுபாவம்

கீழே தரப்பட்டுள்ள வாய்ப்புகளில் இருந்து சரியான விடையைத் தேர்ந்தெடுக்கவும்:

1. A-II, B-I, C-III, D-IV
2. A-III, B-IV, C-I, D-II
3. A-IV, B-II, C-III, D-I
4. A-I, B-III, C-II, D-IV

Options :

485584134729. 1
485584134730. 2
485584134731. 3
485584134732. 4

Question Number : 319 Question Id : 48558433684 Question Type : MCQ Option Shuffling : No Is Question Mandatory : No Calculator : None Response Time : N.A Think Time : N.A Minimum Instruction Time : 0

Correct Marks : 5 Wrong Marks : 1

Question Key Details :

Key	Value
Comprehension	MCQ2

Match List I with List II

LIST I		LIST II	
A.	Odiyanam	I.	ear ornament
B.	Chandra-Surya	II.	three round balls attached to hair
C.	Kunjalam	III.	head ornament
D.	Jhumiki	IV.	belt

Choose the correct answer from the options given below:

1. A-II, B-I, C-III, D-IV
2. A-III, B-IV, C-I, D-II
3. A-I, B-IV, C-III, D-II
4. A-IV, B-III, C-II, D-I

Options :

485584134733. 1
485584134734. 2

485584134735. 3

485584134736. 4

Question Number : 319 Question Id : 48558433684 Question Type : MCQ Option Shuffling : No Is Question Mandatory : No Calculator : None Response Time : N.A Think Time : N.A Minimum Instruction Time : 0

Correct Marks : 5 Wrong Marks : 1

Question Key Details :

Key	Value
Comprehension	MCQ2

பட்டியல் I ஐ பட்டியல் II உடன் பொருத்துக

பட்டியல் I	பட்டியல் II
A. ஒட்டியானம்	I. காதில் அணியும் ஆபரணம்
B. சந்திர-சூர்யா	II. தலைமுடியோடு இணைக்கப்படும் மூன்று வட்டவடிவ பந்துகள்
C. குஞ்சலம்	III. தலையில் அணியும் ஆபரணம்
D. ஜூமகி	IV. இடைக்கயிறு

கீழே தரப்பட்டுள்ள வாய்ப்புகளில் இருந்து சரியான விடையைத் தேர்ந்தெடுக்கவும்:

1. A-II, B-I, C-III, D-IV

2. A-III, B-IV, C-I, D-II

3. A-I, B-IV, C-III, D-II

4. A-IV, B-III, C-II, D-I

Options :

485584134733. 1

485584134734. 2

485584134735. 3

485584134736. 4

Question Number : 320 Question Id : 48558433685 Question Type : MCQ Option Shuffling : No Is Question Mandatory : No Calculator : None Response Time : N.A Think Time : N.A Minimum Instruction Time : 0

Correct Marks : 5 Wrong Marks : 1

Question Key Details :

Key	Value
Comprehension	MCQ2

Give the correct order of the following rasas according to Natyashastra:

- A. Raudra
- B. Hasya
- C. Veera
- D. Shringara
- E. Karuna

Choose the correct answer from the options given below:

- 1. B, A, E, D, C
- 2. D, C, A, E, B
- 3. A, C, E, B, D
- 4. D, B, E, A, C

Options :

- 485584134737. 1
- 485584134738. 2
- 485584134739. 3
- 485584134740. 4

Question Number : 320 Question Id : 48558433685 Question Type : MCQ Option Shuffling : No Is Question Mandatory : No Calculator : None Response Time : N.A Think Time : N.A Minimum Instruction Time : 0

Correct Marks : 5 Wrong Marks : 1

Question Key Details :

Key	Value
Comprehension	MCQ2

நாட்டிய சாஸ்திரத்தின்படி பின்வரும் இரசங்களை சரியான வரிசையில் தருக:

- A. ரௌத்ர
- B. ஹாஸ்ய
- C. வீர
- D. ஷ்ருங்கார்
- E. கருணா

கீழே தரப்பட்டுள்ள வாய்ப்புகளில் இருந்து சரியான விடையைத் தேர்ந்தெடுக்கவும்:

- 1. B, A, E, D, C
- 2. D, C, A, E, B
- 3. A, C, E, B, D
- 4. D, B, E, A, C

Options :

- 485584134737. 1
- 485584134738. 2
- 485584134739. 3
- 485584134740. 4

Percussion Music

Section Id :	485584865
Section Number :	4
Section type :	Online
Mandatory or Optional :	Optional
Number of Questions :	25
Number of Questions to be attempted :	20
Section Marks :	100
Enable Mark as Answered Mark for Review and Clear Response :	Yes
Maximum Instruction Time :	0
Sub-Section Number :	1
Sub-Section Id :	4855842440
Question Shuffling Allowed :	Yes
Is Section Default? :	null

Question Number : 321 Question Id : 48558433686 Question Type : MCQ Option Shuffling : No Is Question Mandatory : No Calculator : None Response Time : N.A Think Time : N.A Minimum Instruction Time : 0

Correct Marks : 5 Wrong Marks : 1

Question Key Details :

Key	Value
Comprehension	MCQ3

Zakir Hussain belongs to which of the following Tabla gharanas?

1. Punjab
2. Delhi
3. Ajrada
4. Lucknow

Options :

485584134741. 1

485584134742. 2

485584134743. 3

485584134744. 4

Question Number : 321 Question Id : 48558433686 Question Type : MCQ Option Shuffling : No Is Question Mandatory : No Calculator : None Response Time : N.A Think Time : N.A Minimum Instruction Time : 0

Correct Marks : 5 Wrong Marks : 1

Question Key Details :

Key	Value
Comprehension	MCQ3

பின்வரும் தபளா கரானாக்களில் ஜாகிர் ஹுசைன் எதற்கு உரியவர்?

1. பஞ்சாப்
2. டெல்லி
3. அஜ்ரதா
4. லக்னோ

Options :

485584134741. 1
485584134742. 2
485584134743. 3
485584134744. 4

Question Number : 322 Question Id : 48558433687 Question Type : MCQ Option Shuffling : No Is Question Mandatory : No Calculator : None Response Time : N.A Think Time : N.A Minimum Instruction Time : 0

Correct Marks : 5 Wrong Marks : 1

Question Key Details :

Key	Value
Comprehension	MCQ3

Identify the Tala - Dha Ge Na Ti

1. Dadra
2. Rupak
3. Kaharwa
4. Sooltala

Options :

485584134745. 1
485584134746. 2
485584134747. 3
485584134748. 4

Question Number : 322 Question Id : 48558433687 Question Type : MCQ Option Shuffling : No Is Question Mandatory : No Calculator : None Response Time : N.A Think Time : N.A Minimum Instruction Time : 0

Correct Marks : 5 Wrong Marks : 1

Question Key Details :

Key	Value
Comprehension	MCQ3

தாளத்தைக் கண்டறிக - தாகே நாதி

1. தத்ரா
2. ரூபக்
3. கஹார்வா
4. சூல்தலா

Options :

485584134745. 1
485584134746. 2
485584134747. 3
485584134748. 4

Question Number : 323 Question Id : 48558433688 Question Type : MCQ Option Shuffling : No Is Question Mandatory : No Calculator : None Response Time : N.A Think Time : N.A Minimum Instruction Time : 0

Correct Marks : 5 Wrong Marks : 1

Question Key Details :

Key	Value
Comprehension	MCQ3

In Natyashastra, which instruments (Vadya) are found similar to Pakhawaj?

1. Ankik
2. Urdhwak
3. Aalingya
4. Jodi

Options :

485584134749. 1
485584134750. 2
485584134751. 3
485584134752. 4

Question Number : 323 Question Id : 48558433688 Question Type : MCQ Option Shuffling : No Is Question Mandatory : No Calculator : None Response Time : N.A Think Time : N.A Minimum Instruction Time : 0

Correct Marks : 5 Wrong Marks : 1

Question Key Details :

Key	Value
Comprehension	MCQ3

நாட்டிய சாஸ்திரத்தில், பக்கா வாஜினை ஒத்த கருவி (வாத்யம்) எது?

1. அங்கிக்
2. உர்த்வக்
3. ஆலிங்கிய
4. ஜோடி

Options :

485584134749. 1
485584134750. 2
485584134751. 3
485584134752. 4

Question Number : 324 Question Id : 48558433689 Question Type : MCQ Option Shuffling : No Is Question Mandatory : No Calculator : None Response Time : N.A Think Time : N.A Minimum Instruction Time : 0

Correct Marks : 5 Wrong Marks : 1

Question Key Details :

Key	Value
Comprehension	MCQ3

Jhump Tal accompanies which form of music?

1. Hindustani
2. Karnatak
3. Punjabi
4. Hariyanwi

Options :

485584134753. 1
485584134754. 2
485584134755. 3
485584134756. 4

Question Number : 324 Question Id : 48558433689 Question Type : MCQ Option Shuffling : No Is Question Mandatory : No Calculator : None Response Time : N.A Think Time : N.A Minimum Instruction Time : 0

Correct Marks : 5 Wrong Marks : 1

Question Key Details :

Key	Value
Comprehension	MCQ3

ஐம்ப தாளம் எந்த இசை வடிவத்தோடு தொடர்புடையது?

1. ஹிந்துஸ்தானி
2. கர்நாடகா
3. பஞ்சாபி
4. ஹரியான்வி

Options :

485584134753. 1
485584134754. 2
485584134755. 3
485584134756. 4

Question Number : 325 Question Id : 48558433690 Question Type : MCQ Option Shuffling : No Is Question Mandatory : No Calculator : None Response Time : N.A Think Time : N.A Minimum Instruction Time : 0

Correct Marks : 5 Wrong Marks : 1

Question Key Details :

Key	Value
Comprehension	MCQ3

Which Tala is accompanied with Dhrupad?

1. Teen Tala
2. Jhump Tala
3. Sooltala
4. Ektala

Options :

485584134757. 1
485584134758. 2
485584134759. 3
485584134760. 4

Question Number : 325 Question Id : 48558433690 Question Type : MCQ Option Shuffling : No Is Question Mandatory : No Calculator : None Response Time : N.A Think Time : N.A Minimum Instruction Time : 0

Correct Marks : 5 Wrong Marks : 1

Question Key Details :

Key	Value
Comprehension	MCQ3

தருபத்தோடு தொடர்புடைய தாளம் எது?

1. தீன் தாளம்
2. ஜம்ப தாளம்
3. சூல் தாளம்
4. ஏக் தாளம்

Options :

485584134757. 1
485584134758. 2
485584134759. 3
485584134760. 4

Question Number : 326 Question Id : 48558433691 Question Type : MCQ Option Shuffling : No Is Question Mandatory : No Calculator : None Response Time : N.A Think Time : N.A Minimum Instruction Time : 0

Correct Marks : 5 Wrong Marks : 1

Question Key Details :

Key	Value
Comprehension	MCQ3

Which Tala is played with Bhajan?

1. Kaharwa
2. Rudra
3. Lilawati
4. Vishnu

Options :

485584134761. 1
485584134762. 2
485584134763. 3
485584134764. 4

Question Number : 326 Question Id : 48558433691 Question Type : MCQ Option Shuffling : No Is Question Mandatory : No Calculator : None Response Time : N.A Think Time : N.A Minimum Instruction Time : 0

Correct Marks : 5 Wrong Marks : 1

Question Key Details :

Key	Value
Comprehension	MCQ3

பஜன் உடன் இசைக்கப்படும் தாளம் எது?

1. கஹார்வா
2. ருத்ர
3. லீலாவதி
4. விஷ்ணு

Options :

485584134761. 1
485584134762. 2
485584134763. 3
485584134764. 4

Question Number : 327 Question Id : 48558433692 Question Type : MCQ Option Shuffling : No Is Question Mandatory : No Calculator : None Response Time : N.A Think Time : N.A Minimum Instruction Time : 0

Correct Marks : 5 Wrong Marks : 1

Question Key Details :

Key	Value
Comprehension	MCQ3

Who was the founder of Delhi Gharana?

1. Modu Khan
2. Kallu Khan
3. Siddhar Khan
4. Hasan Khan

Options :

485584134765. 1
485584134766. 2
485584134767. 3
485584134768. 4

Question Number : 327 Question Id : 48558433692 Question Type : MCQ Option Shuffling : No Is Question Mandatory : No Calculator : None Response Time : N.A Think Time : N.A Minimum Instruction Time : 0

Correct Marks : 5 Wrong Marks : 1

Question Key Details :

Key	Value
Comprehension	MCQ3

டில்லி கரானாவினை தோற்றுவித்தவர் யார்?

1. மோது கான்
2. கல்லூ கான்
3. சித்தார் கான்
4. ஹசன் கான்

Options :

485584134765. 1
485584134766. 2
485584134767. 3
485584134768. 4

Question Number : 328 Question Id : 48558433693 Question Type : MCQ Option Shuffling : No Is Question Mandatory : No Calculator : None Response Time : N.A Think Time : N.A Minimum Instruction Time : 0

Correct Marks : 5 Wrong Marks : 1

Question Key Details :

Key	Value
Comprehension	MCQ3

Mridangam is made from the wood of :

1. Aam (Mango)
2. Shisham
3. Jamun
4. Kathal (Jackfruit)

Options :

485584134769. 1
485584134770. 2
485584134771. 3
485584134772. 4

Question Number : 328 Question Id : 48558433693 Question Type : MCQ Option Shuffling : No Is Question Mandatory : No Calculator : None Response Time : N.A Think Time : N.A Minimum Instruction Time : 0

Correct Marks : 5 Wrong Marks : 1

Question Key Details :

Key	Value
Comprehension	MCQ3

மிருதங்கம், இம்மரம் கொண்டு செய்யப்படுகிறது:

1. ஆம் (மாமரம்)
2. சீஷம்
3. ஜாமுன்
4. கதல் (பலாமரம்)

Options :

485584134769. 1
485584134770. 2
485584134771. 3
485584134772. 4

Question Number : 329 Question Id : 48558433694 Question Type : MCQ Option Shuffling : No Is Question Mandatory : No Calculator : None Response Time : N.A Think Time : N.A Minimum Instruction Time : 0

Correct Marks : 5 Wrong Marks : 1

Question Key Details :

Key	Value
Comprehension	MCQ3

How many 'Gullis' are used in Pakhawaj?

1. 6
2. 8
3. 10
4. 12

Options :

485584134773. 1
485584134774. 2
485584134775. 3
485584134776. 4

Question Number : 329 Question Id : 48558433694 Question Type : MCQ Option Shuffling : No Is Question Mandatory : No Calculator : None Response Time : N.A Think Time : N.A Minimum Instruction Time : 0

Correct Marks : 5 Wrong Marks : 1

Question Key Details :

Key	Value
Comprehension	MCQ3

பக்காவாஜ் என்பதில் எத்தனை 'குள்ளிகள்' பயன்படுத்தப்படுகின்றன?

1. 6
2. 8
3. 10
4. 12

Options :

485584134773. 1
485584134774. 2
485584134775. 3
485584134776. 4

Question Number : 330 Question Id : 48558433695 Question Type : MCQ Option Shuffling : No Is Question Mandatory : No Calculator : None Response Time : N.A Think Time : N.A Minimum Instruction Time : 0

Correct Marks : 5 Wrong Marks : 1

Question Key Details :

Key	Value
Comprehension	MCQ3

Kudau Singh is related to which musical instrument (Vadya)?

1. Tabla
2. Pakhawaj
3. Mridangam
4. Punga

Options :

485584134777. 1
485584134778. 2
485584134779. 3
485584134780. 4

Question Number : 330 Question Id : 48558433695 Question Type : MCQ Option Shuffling : No Is Question Mandatory : No Calculator : None Response Time : N.A Think Time : N.A Minimum Instruction Time : 0

Correct Marks : 5 Wrong Marks : 1

Question Key Details :

Key	Value
Comprehension	MCQ3

குதௌ சிங் ஂந்த இசைக்கருவி (வாத்தியத்தோடு) தொடர்புடையது?

1. தபளா
2. பக்காவாஜ்
3. மிருதங்கம்
4. புங்கா

Options :

485584134777. 1
485584134778. 2
485584134779. 3
485584134780. 4

Question Number : 331 Question Id : 48558433696 Question Type : MCQ Option Shuffling : No Is Question Mandatory : No Calculator : None Response Time : N.A Think Time : N.A Minimum Instruction Time : 0

Correct Marks : 5 Wrong Marks : 1

Question Key Details :

Key	Value
Comprehension	MCQ3

Kayada of Ada laya is famous in which Gharana?

1. Delhi
2. Punjab
3. Ajrada
4. Farukhabad

Options :

485584134781. 1
485584134782. 2
485584134783. 3
485584134784. 4

Question Number : 331 Question Id : 48558433696 Question Type : MCQ Option Shuffling : No Is Question Mandatory : No Calculator : None Response Time : N.A Think Time : N.A Minimum Instruction Time : 0

Correct Marks : 5 Wrong Marks : 1

Question Key Details :

Key	Value
Comprehension	MCQ3

அட லயாவின் கயாடா எந்த கரானாவில் பிரபலமானது?

1. டில்லி
2. பஞ்சாபி
3. அஜ்ரதா
4. ஃபரூகாபாத்

Options :

485584134781. 1
485584134782. 2
485584134783. 3
485584134784. 4

Question Number : 332 Question Id : 48558433697 Question Type : MCQ Option Shuffling : No Is Question Mandatory : No Calculator : None Response Time : N.A Think Time : N.A Minimum Instruction Time : 0

Correct Marks : 5 Wrong Marks : 1

Question Key Details :

Key	Value
Comprehension	MCQ3

'Dha' Varna is related to which instrument (Vadya)?

1. Sitar
2. Sarod
3. Pakhawaj
4. Violin

Options :

485584134785. 1
485584134786. 2
485584134787. 3
485584134788. 4

Question Number : 332 Question Id : 48558433697 Question Type : MCQ Option Shuffling : No Is Question Mandatory : No Calculator : None Response Time : N.A Think Time : N.A Minimum Instruction Time : 0

Correct Marks : 5 Wrong Marks : 1

Question Key Details :

Key	Value
Comprehension	MCQ3

'த' வர்ணம் என்பது எந்த வாத்தியத்தோடு தொடர்புடையது?

1. சித்தார்
2. சரோடு
3. பக்காவாஜ்
4. வயலின்

Options :

485584134785. 1
485584134786. 2
485584134787. 3
485584134788. 4

Question Number : 333 Question Id : 48558433698 Question Type : MCQ Option Shuffling : No Is Question Mandatory : No Calculator : None Response Time : N.A Think Time : N.A Minimum Instruction Time : 0

Correct Marks : 5 Wrong Marks : 1

Question Key Details :

Key	Value
Comprehension	MCQ3

Ta, Deem, Dom, Nam varnas pertain to which instrument (Vadya)?

1. Pakhawaj
2. Tabla
3. Dholak
4. Mridangam

Options :

485584134789. 1
485584134790. 2
485584134791. 3
485584134792. 4

Question Number : 333 Question Id : 48558433698 Question Type : MCQ Option Shuffling : No Is Question Mandatory : No Calculator : None Response Time : N.A Think Time : N.A Minimum Instruction Time : 0

Correct Marks : 5 Wrong Marks : 1

Question Key Details :

Key	Value
Comprehension	MCQ3

த, தீம், தோம், நம் வர்ணங்கள் எந்த வாத்தியத்திற்கு உரியவை?

1. பக்காவாஜ்
2. தபளா
3. டோலக்
4. மிருதங்கம்

Options :

485584134789. 1
485584134790. 2
485584134791. 3
485584134792. 4

Question Number : 334 Question Id : 48558433699 Question Type : MCQ Option Shuffling : No Is Question Mandatory : No Calculator : None Response Time : N.A Think Time : N.A Minimum Instruction Time : 0

Correct Marks : 5 Wrong Marks : 1

Question Key Details :

Key	Value
Comprehension	MCQ3

'Pharan' is played on:

1. Khol
2. Tabla
3. Pakhawaj
4. Mridangam

Options :

485584134793. 1
485584134794. 2
485584134795. 3
485584134796. 4

Question Number : 334 Question Id : 48558433699 Question Type : MCQ Option Shuffling : No Is Question Mandatory : No Calculator : None Response Time : N.A Think Time : N.A Minimum Instruction Time : 0

Correct Marks : 5 Wrong Marks : 1

Question Key Details :

Key	Value
Comprehension	MCQ3

'ஃபரன்' என்பது இதில் இசைக்கப்படும்:

1. கோல்
2. தபளா
3. பக்காவாஜ்
4. மிருதங்கம்

Options :

485584134793. 1
485584134794. 2
485584134795. 3
485584134796. 4

Question Number : 335 Question Id : 48558433700 Question Type : MCQ Option Shuffling : No Is Question Mandatory : No Calculator : None Response Time : N.A Think Time : N.A Minimum Instruction Time : 0

Correct Marks : 5 Wrong Marks : 1

Question Key Details :

Key	Value
Comprehension	MCQ3

Matras are indicated by the sign -

1. X X X
2. # # #
3. 1 2 3
4. 1 1 1

Options :

485584134797. 1
485584134798. 2
485584134799. 3
485584134800. 4

Question Number : 335 Question Id : 48558433700 Question Type : MCQ Option Shuffling : No Is Question Mandatory : No Calculator : None Response Time : N.A Think Time : N.A Minimum Instruction Time : 0

Correct Marks : 5 Wrong Marks : 1

Question Key Details :

Key	Value
Comprehension	MCQ3

மாத்திரைகளை குறிக்கும் குறியீடு என்பது -

1. X X X

2. # # #

3. 1 2 3

4. 1 1 1

Options :

485584134797. 1

485584134798. 2

485584134799. 3

485584134800. 4

Question Number : 336 Question Id : 48558433701 Question Type : MCQ Option Shuffling : No Is Question Mandatory : No Calculator : None Response Time : N.A Think Time : N.A Minimum Instruction Time : 0

Correct Marks : 5 Wrong Marks : 1

Question Key Details :

Key	Value
Comprehension	MCQ3

Earmark the laya 'Thah':

1. 1 2 3 4

2. 12 34 56 78

3. 123 456 789 10,11,12

4. 1234 1234 1234 1234

Options :

485584134801. 1

485584134802. 2

485584134803. 3

485584134804. 4

Question Number : 336 Question Id : 48558433701 Question Type : MCQ Option Shuffling : No Is Question Mandatory : No Calculator : None Response Time : N.A Think Time : N.A Minimum Instruction Time : 0

Correct Marks : 5 Wrong Marks : 1

Question Key Details :

Key	Value
Comprehension	MCQ3

'தா'... எனும் லயத்தை குறிப்பிட்டுக் காட்டவும்:

1. 1 2 3 4

2. 12 34 56 78

3. 123 456 789 10,11,12

4. 1234 1234 1234 1234

Options :

485584134801. 1

485584134802. 2

485584134803. 3

485584134804. 4

Question Number : 337 Question Id : 48558433702 Question Type : MCQ Option Shuffling : No Is Question Mandatory : No Calculator : None Response Time : N.A Think Time : N.A Minimum Instruction Time : 0

Correct Marks : 5 Wrong Marks : 1

Question Key Details :

Key	Value
Comprehension	MCQ3

Syahi (ink) appearing in the Mridangam bears the color:

1. Green

2. Red

3. Black

4. Yellow

Options :

485584134805. 1

485584134806. 2

485584134807. 3

485584134808. 4

Question Number : 337 Question Id : 48558433702 Question Type : MCQ Option Shuffling : No Is Question Mandatory : No Calculator : None Response Time : N.A Think Time : N.A Minimum Instruction Time : 0

Correct Marks : 5 Wrong Marks : 1

Question Key Details :

Key	Value
Comprehension	MCQ3

மிருதங்கத்தில் காணப்படும் ஸ்யாஹி (எழுதுமை) இந்த நிறத்தில் அமையும்:

1. பச்சை
2. சிவப்பு
3. கருப்பு
4. மஞ்சள்

Options :

485584134805. 1
485584134806. 2
485584134807. 3
485584134808. 4

Question Number : 338 Question Id : 48558433703 Question Type : MCQ Option Shuffling : No Is Question Mandatory : No Calculator : None Response Time : N.A Think Time : N.A Minimum Instruction Time : 0

Correct Marks : 5 Wrong Marks : 1

Question Key Details :

Key	Value
Comprehension	MCQ3

Identify the Tala:

Ka, dhe, Te, Dhe Te dhaa S

1. Teentala
2. Chartala
3. Dhamar
4. Jhampatala

Options :

485584134809. 1
485584134810. 2
485584134811. 3
485584134812. 4

Question Number : 338 Question Id : 48558433703 Question Type : MCQ Option Shuffling : No Is Question Mandatory : No Calculator : None Response Time : N.A Think Time : N.A Minimum Instruction Time : 0

Correct Marks : 5 Wrong Marks : 1

Question Key Details :

Key	Value
Comprehension	MCQ3

தாளத்தைக் கண்டறிக:

கா, தே, தே, தே தே தா ஸ

1. சீன்தாளம்
2. சார்தாளம்
3. தமர்
4. ஜம்பதாளம்

Options :

485584134809. 1
485584134810. 2
485584134811. 3
485584134812. 4

Question Number : 339 Question Id : 48558433704 Question Type : MCQ Option Shuffling : No Is Question Mandatory : No Calculator : None Response Time : N.A Think Time : N.A Minimum Instruction Time : 0

Correct Marks : 5 Wrong Marks : 1

Question Key Details :

Key	Value
Comprehension	MCQ3

'Baddhi' of Tabla is made up of:

1. String
2. Leather
3. Metal
4. Iron

Options :

485584134813. 1
485584134814. 2
485584134815. 3
485584134816. 4

Question Number : 339 Question Id : 48558433704 Question Type : MCQ Option Shuffling : No Is Question Mandatory : No Calculator : None Response Time : N.A Think Time : N.A Minimum Instruction Time : 0

Correct Marks : 5 Wrong Marks : 1

Question Key Details :

Key	Value
Comprehension	MCQ3

தபளாவில் உள்ள 'பத்தி' இதனால் ஆனது:

1. கம்பி
2. தோல்
3. உலோகம்
4. இரும்பு

Options :

485584134813. 1
485584134814. 2
485584134815. 3
485584134816. 4

Question Number : 340 Question Id : 48558433705 Question Type : MCQ Option Shuffling : No Is Question Mandatory : No Calculator : None Response Time : N.A Think Time : N.A Minimum Instruction Time : 0

Correct Marks : 5 Wrong Marks : 1

Question Key Details :

Key	Value
Comprehension	MCQ3

Match List I with List II

LIST I		LIST II	
Revelations (Bal)		Tala	
A.	Dhi Na Dhi Dhi Na	I.	Teental
B.	Dha Dhin Dhin Dha	II.	Jhaptal
C.	Ti Ti Na	III.	Dadra
D.	Dha Dhi Na	IV.	Rupak

Choose the correct answer from the options given below:

1. A-I, B-III, C-II, D-IV
2. A-III, B-II, C-I, D-IV
3. A-IV, B-III, C-II, D-I
4. A-II, B-I, C-IV, D-III

Options :

485584134817. 1
485584134818. 2
485584134819. 3
485584134820. 4

Question Number : 340 Question Id : 48558433705 Question Type : MCQ Option Shuffling : No Is Question Mandatory : No Calculator : None Response Time : N.A Think Time : N.A Minimum Instruction Time : 0

Correct Marks : 5 Wrong Marks : 1

Question Key Details :

Key	Value
-----	-------

பட்டியல் I ஐ பட்டியல் II உடன் பொருத்துக

பட்டியல் I வெளியீட்டுக் குறியீடுகள் (Bal)		பட்டியல் II தாளம்	
A.	தினதின	I.	தீன்தாளம்
B.	தாதின்தின்தா	II.	ஜப்தாளம்
C.	திதின	III.	தத்ரா
D.	தாதின	IV.	ரூபக்

கீழே தரப்பட்டுள்ள வாய்ப்புகளில் இருந்து சரியான விடையைத் தேர்ந்தெடுக்கவும்:

1. A-I, B-III, C-II, D-IV
2. A-III, B-II, C-I, D-IV
3. A-IV, B-III, C-II, D-I
4. A-II, B-I, C-IV, D-III

Options :

485584134817. 1
485584134818. 2
485584134819. 3
485584134820. 4

Question Number : 341 Question Id : 48558433706 Question Type : MCQ Option Shuffling : No Is Question Mandatory : No Calculator : None Response Time : N.A Think Time : N.A Minimum Instruction Time : 0

Correct Marks : 5 Wrong Marks : 1

Question Key Details :

Key	Value
Comprehension	MCQ3

Match List I with List II

LIST I Bandish		LIST II (Instruments) Vadya	
A.	Kayada	I.	Pakhawaj
B.	Stuti Paran	II.	Sitar
C.	Razakhani Gat	III.	Tabla
D.	Aamad	IV.	Kathak

Choose the correct answer from the options given below:

1. A-III, B-I, C-II, D-IV
2. A-II, B-III, C-IV, D-I
3. A-I, B-II, C-III, D-IV
4. A-IV, B-III, C-I, D-II

Options :

485584134821. 1
485584134822. 2
485584134823. 3
485584134824. 4

Question Number : 341 Question Id : 48558433706 Question Type : MCQ Option Shuffling : No Is Question Mandatory : No Calculator : None Response Time : N.A Think Time : N.A Minimum Instruction Time : 0

Correct Marks : 5 Wrong Marks : 1

Question Key Details :

Key	Value
Comprehension	MCQ3

பட்டியல் I ஐ பட்டியல் II உடன் பொருத்துக

பட்டியல் I பாண்டிஷ்		பட்டியல் II (கருவிகள்) வாத்தியங்கள்	
A.	கயாடா	I.	பக்காவாஜ்
B.	ஸ்துதி பரண்	II.	சித்தார்
C.	ரஸாகனி காத்	III.	தபளா
D.	ஆமாத்	IV.	கதக்

கீழே தரப்பட்டுள்ள வாய்ப்புகளில் இருந்து சரியான விடையைத் தேர்ந்தெடுக்கவும்:

1. A-III, B-I, C-II, D-IV
2. A-II, B-III, C-IV, D-I
3. A-I, B-II, C-III, D-IV
4. A-IV, B-III, C-I, D-II

Options :

485584134821. 1
485584134822. 2
485584134823. 3
485584134824. 4

Question Number : 342 Question Id : 48558433707 Question Type : MCQ Option Shuffling : No Is Question Mandatory : No Calculator : None Response Time : N.A Think Time : N.A Minimum Instruction Time : 0

Correct Marks : 5 Wrong Marks : 1

Question Key Details :

Key	Value
Comprehension	MCQ3

Which among the following are played on Pakhawaj?

- A. Stuti Paran
- B. Tukda
- C. Rela
- D. Kayada
- E. Chakradar

Choose the correct answer from the options given below:

- 1. A, C and E
- 2. A, B and D
- 3. A, D and E
- 4. A, B and C

Options :

- 485584134825. 1
- 485584134826. 2
- 485584134827. 3
- 485584134828. 4

Question Number : 342 Question Id : 48558433707 Question Type : MCQ Option Shuffling : No Is Question Mandatory : No Calculator : None Response Time : N.A Think Time : N.A Minimum Instruction Time : 0

Correct Marks : 5 Wrong Marks : 1

Question Key Details :

Key	Value
Comprehension	MCQ3

பின்வருவனவற்றுள் எவை பக்காவாஜ் என்பதில் இசைக்கப்படுகிறது?

- A. ஸ்துதி பரண்
- B. துக்டா
- C. ரேலா
- D. கயாடா
- E. சக்ரதார்

கீழே தரப்பட்டுள்ள வாய்ப்புகளில் இருந்து சரியான விடையைத் தேர்ந்தெடுக்கவும்:

- 1. A, C மற்றும் E
- 2. A, B மற்றும் D
- 3. A, D மற்றும் E
- 4. A, B மற்றும் C

Options :

- 485584134825. 1
- 485584134826. 2
- 485584134827. 3
- 485584134828. 4

Question Number : 343 Question Id : 48558433708 Question Type : MCQ Option Shuffling : No Is Question Mandatory : No Calculator : None Response Time : N.A Think Time : N.A Minimum Instruction Time : 0 Correct Marks : 5 Wrong Marks : 1

Question Key Details :

Key	Value
Comprehension	MCQ3

Select correct sequence of Tabla Players on the basis of their seniority.

- A. Kishan Maharaj
- B. Zakir Hussain
- C. Chotey Lal Mishra
- D. Ramji Mishra
- E. Ram Kumar Mishra

Choose the correct answer from the options given below:

- 1. A, C, D, B, E
- 2. A, B, C, D, E
- 3. A, D, E, C, B
- 4. A, E, D, C, B

Options :

- 485584134829. 1
- 485584134830. 2
- 485584134831. 3
- 485584134832. 4

Question Number : 343 Question Id : 48558433708 Question Type : MCQ Option Shuffling : No Is Question Mandatory : No Calculator : None Response Time : N.A Think Time : N.A Minimum Instruction Time : 0 Correct Marks : 5 Wrong Marks : 1

Question Key Details :

Key	Value
Comprehension	MCQ3

தபளா கலைஞர்கள் அவர்களின் பட்டறிவுத் தேர்ச்சியின் முதிர்வின் அடிப்படையில் தெரிவு செய்க.

- A. கிஷன் மகாராஜ்
- B. ஜாகிர் ஹுசைன்
- C. சோதே லால் மிஷ்ரா
- D. ராம்ஜி மிஷ்ரா
- E. ராம் குமார் மிஷ்ரா

கீழே தரப்பட்டுள்ள வாய்ப்புகளில் இருந்து சரியான விடையைத் தேர்ந்தெடுக்கவும்:

- 1. A, C, D, B, E
- 2. A, B, C, D, E
- 3. A, D, E, C, B
- 4. A, E, D, C, B

Options :

- 485584134829. 1
- 485584134830. 2
- 485584134831. 3
- 485584134832. 4

Question Number : 344 Question Id : 48558433709 Question Type : MCQ Option Shuffling : No Is Question Mandatory : No Calculator : None Response Time : N.A Think Time : N.A Minimum Instruction Time : 0

Correct Marks : 5 Wrong Marks : 1

Question Key Details :

Key	Value
Comprehension	MCQ3

Which instruments (Vadya) are played during 'Bhajan' singing?

- A. Tabla
- B. Surbahar
- C. Pakhawaj
- D. Drum
- E. Harmonium

Choose the correct answer from the options given below:

- 1. A, B and C
- 2. A, C and E
- 3. A, D and B
- 4. B, D and E

Options :

- 485584134833. 1
- 485584134834. 2
- 485584134835. 3

485584134836. 4

Question Number : 344 Question Id : 48558433709 Question Type : MCQ Option Shuffling : No Is Question Mandatory : No Calculator : None Response Time : N.A Think Time : N.A Minimum Instruction Time : 0

Correct Marks : 5 Wrong Marks : 1

Question Key Details :

Key	Value
Comprehension	MCQ3

'பஜன்' பாடப்படும்போது இசைக்கப்படும் வாத்தியங்கள் எவை?

- A. தபளா
- B. சுர்பஹார்
- C. பக்காவாஜ்
- D. ட்ரம்
- E. ஹார்மோனியம்

கீழே தரப்பட்டுள்ள வாய்ப்புகளில் இருந்து சரியான விடையைத் தேர்ந்தெடுக்கவும்:

1. A, B மற்றும் C
2. A, C மற்றும் E
3. A, D மற்றும் B
4. B, D மற்றும் E

Options :

- 485584134833. 1
- 485584134834. 2
- 485584134835. 3
- 485584134836. 4

Question Number : 345 Question Id : 48558433710 Question Type : MCQ Option Shuffling : No Is Question Mandatory : No Calculator : None Response Time : N.A Think Time : N.A Minimum Instruction Time : 0

Correct Marks : 5 Wrong Marks : 1

Question Key Details :

Key	Value
Comprehension	MCQ3

Which of the following are Tabla Gharanas?

- A. Delhi
- B. Culcutta
- C. Ajrada
- D. Jaipur
- E. Farukhabad

Choose the correct answer from the options given below:

- 1. A, B and D
- 2. A, D and E
- 3. A, C and E
- 4. A, E and C

Options :

- 485584134837. 1
- 485584134838. 2
- 485584134839. 3
- 485584134840. 4

Question Number : 345 Question Id : 48558433710 Question Type : MCQ Option Shuffling : No Is Question Mandatory : No Calculator : None Response Time : N.A Think Time : N.A Minimum Instruction Time : 0

Correct Marks : 5 Wrong Marks : 1

Question Key Details :

Key	Value
Comprehension	MCQ3

பின்வருவனவற்றில் தபளாகராணாக்கள் எவை?

- A. டெல்லி
- B. கல்கத்தா
- C. அஜ்ரதா
- D. ஜெய்ப்பூர்
- E. ஃபரூகாபாத்

கீழே தரப்பட்டுள்ள வாய்ப்புகளில் இருந்து சரியான விடையைத் தேர்ந்தெடுக்கவும்:

- 1. A, B மற்றும் D
- 2. A, D மற்றும் E
- 3. A, C மற்றும் E
- 4. A, E மற்றும் C

Options :

- 485584134837. 1
- 485584134838. 2
- 485584134839. 3
- 485584134840. 4

Drama And Theatre

Section Id :	485584866
Section Number :	5
Section type :	Online
Mandatory or Optional :	Optional
Number of Questions :	25
Number of Questions to be attempted :	20
Section Marks :	100
Enable Mark as Answered Mark for Review and Clear Response :	Yes
Maximum Instruction Time :	0
Sub-Section Number :	1
Sub-Section Id :	4855842441
Question Shuffling Allowed :	Yes
Is Section Default? :	null

Question Number : 346 Question Id : 48558433711 Question Type : MCQ Option Shuffling : No Is Question Mandatory : No Calculator : None Response Time : N.A Think Time : N.A Minimum Instruction Time : 0

Correct Marks : 5 Wrong Marks : 1

Question Key Details :

Key	Value
Comprehension	MCQ4

In which sanskrit drama of Bhasa the curse of Parshurama plays an important role?

1. Madhyama Vyayoga
2. Karnabharam
3. Urubhangam
4. Dutavakyam

Options :

485584134841. 1
485584134842. 2
485584134843. 3
485584134844. 4

Question Number : 346 Question Id : 48558433711 Question Type : MCQ Option Shuffling : No Is Question Mandatory : No Calculator : None Response Time : N.A Think Time : N.A Minimum Instruction Time : 0

Correct Marks : 5 Wrong Marks : 1

Question Key Details :

Key	Value
Comprehension	MCQ4

பாஸாவின் எந்த சமஸ்கிருத நாடகத்தில், பரசுராமரது சாபம் முக்கிய பங்கு வகிக்கின்றது?

1. மத்யமா வ்யயோகா
2. கர்ணாபரணம்
3. உருபங்கம்
4. துதவாக்யம்

Options :

485584134841. 1
485584134842. 2
485584134843. 3
485584134844. 4

Question Number : 347 Question Id : 48558433712 Question Type : MCQ Option Shuffling : No Is Question Mandatory : No Calculator : None Response Time : N.A Think Time : N.A Minimum Instruction Time : 0

Correct Marks : 5 Wrong Marks : 1

Question Key Details :

Key	Value
Comprehension	MCQ4

In which sanskrit drama Charudatta and Vasantsena appears as Nayaka and Nayika?

1. Svapna Vasavadattam
2. Mahaveer Charitam
3. Mricchakatikam
4. Abhijnanshakuntalam

Options :

485584134845. 1
485584134846. 2
485584134847. 3
485584134848. 4

Question Number : 347 Question Id : 48558433712 Question Type : MCQ Option Shuffling : No Is Question Mandatory : No Calculator : None Response Time : N.A Think Time : N.A Minimum Instruction Time : 0

Correct Marks : 5 Wrong Marks : 1

Question Key Details :

Key	Value
Comprehension	MCQ4

எந்த சமஸ்கிருத நாடகத்தில் சாருத்தா மற்றும் வசந்தசேனா நாயகனாகவும் நாயகியாகும் தோன்றுகின்றனர்?

1. ஸ்வப்ண வாஸவதத்தம்
2. மஹாவீர் சரிதம்
3. ம்ருச்சகடிகம்
4. அபிஞ்ஞான்ஷாகுந்தலம்

Options :

485584134845. 1
485584134846. 2
485584134847. 3
485584134848. 4

Question Number : 348 Question Id : 48558433713 Question Type : MCQ Option Shuffling : No Is Question Mandatory : No Calculator : None Response Time : N.A Think Time : N.A Minimum Instruction Time : 0

Correct Marks : 5 Wrong Marks : 1

Question Key Details :

Key	Value
Comprehension	MCQ4

The traditional Theatre Form created by the great religious thinker and reformer Shankardeva of Assam is known as:

1. Ankia Nat
2. Rasaleela
3. Krishnattam
4. Chhau

Options :

485584134849. 1
485584134850. 2
485584134851. 3
485584134852. 4

Question Number : 348 Question Id : 48558433713 Question Type : MCQ Option Shuffling : No Is Question Mandatory : No Calculator : None Response Time : N.A Think Time : N.A Minimum Instruction Time : 0

Correct Marks : 5 Wrong Marks : 1

Question Key Details :

Key	Value
Comprehension	MCQ4

ಮಿಕಪ್ಪರಿಯ ಮತವಾತ ಞಾನಿಯುಮ್ ಸೀರ್ತಿರುತ್ತವಾತಿಯುಮಾನ ಅಸ್ಸಾಢಾಢೆಸೆ ಸೇರ್ನತ ಸುಗ್ಕರ್ತೇವಾವಾಲ್ ಁರುವಾಕುಕುಪ್ಪಟ್ಟ ಪಾರುಢುಪರಿಯ ನಾಡಕ ಅರಗುಗವಡಿವುಢು ಇವುವಾಢು ಅಢುಢುಕುಕುಪ್ಪಡುಕುಢು:

1. ಅಗುಗುಯಾ ನಾಡು
2. ರಸ ಲೀಲಾ
3. ಕುರುಷುಣಾಡುಡುಡು
4. ಸುಸುನ

Options :

485584134849. 1
485584134850. 2
485584134851. 3
485584134852. 4

Question Number : 349 Question Id : 48558433714 Question Type : MCQ Option Shuffling : No Is Question Mandatory : No Calculator : None Response Time : N.A Think Time : N.A Minimum Instruction Time : 0

Correct Marks : 5 Wrong Marks : 1

Question Key Details :

Key	Value
Comprehension	MCQ4

'Jokumaraswami', the famous Kannada play is written by -

1. Girish Karnad
2. Adya Rangacharya
3. Chandrasekhar Kambar
4. H. S. Shivaprakash

Options :

485584134853. 1
485584134854. 2
485584134855. 3
485584134856. 4

Question Number : 349 Question Id : 48558433714 Question Type : MCQ Option Shuffling : No Is Question Mandatory : No Calculator : None Response Time : N.A Think Time : N.A Minimum Instruction Time : 0

Correct Marks : 5 Wrong Marks : 1

Question Key Details :

Key	Value
Comprehension	MCQ4

'ஜோகுமார்ஸ்வாமி' எனும் பிரபல கன்னட நாடகத்தை எழுதியவர்-

1. கிரீஷ் கர்னாட்
2. அத்யா ரங்கர்ச்சார்யா
3. சந்திரசேகர் கம்பர்
4. H. S. ஷிவ்பிரகாஷ்

Options :

485584134853. 1
485584134854. 2
485584134855. 3
485584134856. 4

Question Number : 350 Question Id : 48558433715 Question Type : MCQ Option Shuffling : No Is Question Mandatory : No Calculator : None Response Time : N.A Think Time : N.A Minimum Instruction Time : 0

Correct Marks : 5 Wrong Marks : 1

Question Key Details :

Key	Value
Comprehension	MCQ4

The famous Hindi play 'Adhe Adhure' which depicts the crisis of values faced by the middle class family, is written by:

1. Mohan Rakesh
2. Surendra Varma
3. Shankar Shesh
4. Mani Madhukar

Options :

485584134857. 1
485584134858. 2
485584134859. 3
485584134860. 4

Question Number : 350 Question Id : 48558433715 Question Type : MCQ Option Shuffling : No Is Question Mandatory : No Calculator : None Response Time : N.A Think Time : N.A Minimum Instruction Time : 0

Correct Marks : 5 Wrong Marks : 1

Question Key Details :

Key	Value
Comprehension	MCQ4

மத்திய வர்க்க குடும்பங்களுக்கு நேரிடும் மனிதநேய பண்புமதிப்புகள் பற்றிய நெருக்கடிகளை வெளிக்காட்டும் 'ஆதே அதாரே' எனும் பிரபல ஹிந்தி நாடகத்தை எழுதியவர்.

1. மோகன் ராகேஷ்
2. சுரேந்திர வர்மா
3. சங்கர் ஷேஷ்
4. மணி மதுகர்

Options :

485584134857. 1
485584134858. 2
485584134859. 3
485584134860. 4

Question Number : 351 Question Id : 48558433716 Question Type : MCQ Option Shuffling : No Is Question Mandatory : No Calculator : None Response Time : N.A Think Time : N.A Minimum Instruction Time : 0

Correct Marks : 5 Wrong Marks : 1

Question Key Details :

Key	Value
Comprehension	MCQ4

The Director who is famous for directing Mahakavi Bhasa plays :

1. Jabbar Patel
2. K. N. Pannikar
3. Pravin Joshi
4. Rajendar Nath

Options :

485584134861. 1
485584134862. 2
485584134863. 3
485584134864. 4

Question Number : 351 Question Id : 48558433716 Question Type : MCQ Option Shuffling : No Is Question Mandatory : No Calculator : None Response Time : N.A Think Time : N.A Minimum Instruction Time : 0

Correct Marks : 5 Wrong Marks : 1

Question Key Details :

Key	Value
Comprehension	MCQ4

மகாகவி பாஸாவின் பிரபல நாடகங்களை இயக்குவதில் பிரபாபலமான இயக்குனர்.

1. ஜப்பர் படேல்
2. K. N. பனிக்கர்
3. பிரவீன் ஜோஷி
4. இராஜேந்திர நாத்

Options :

485584134861. 1
485584134862. 2
485584134863. 3
485584134864. 4

Question Number : 352 Question Id : 48558433717 Question Type : MCQ Option Shuffling : No Is Question Mandatory : No Calculator : None Response Time : N.A Think Time : N.A Minimum Instruction Time : 0

Correct Marks : 5 Wrong Marks : 1

Question Key Details :

Key	Value
Comprehension	MCQ4

'Hypokrites' is a Greek word meaning:

1. Actor
2. Director
3. Producer
4. Playwright

Options :

485584134865. 1
485584134866. 2
485584134867. 3
485584134868. 4

Question Number : 352 Question Id : 48558433717 Question Type : MCQ Option Shuffling : No Is Question Mandatory : No Calculator : None Response Time : N.A Think Time : N.A Minimum Instruction Time : 0

Correct Marks : 5 Wrong Marks : 1

Question Key Details :

Key	Value
Comprehension	MCQ4

'ஹிபோகிரிடஸ்' எனும் கிரேக்க சொல்லின் பொருள்:

1. நடிகர்
2. இயக்குனர்
3. தயாரிப்பாளர்
4. நாடக ஆசிரியர்

Options :

485584134865. 1
485584134866. 2
485584134867. 3
485584134868. 4

Question Number : 353 Question Id : 48558433718 Question Type : MCQ Option Shuffling : No Is Question Mandatory : No Calculator : None Response Time : N.A Think Time : N.A Minimum Instruction Time : 0

Correct Marks : 5 Wrong Marks : 1

Question Key Details :

Key	Value
Comprehension	MCQ4

The only surviving Greek Trilogy is 'Aeschylus' -

1. The Persians
2. The Orestia
3. Agamemnon
4. The Eumenides

Options :

485584134869. 1
485584134870. 2
485584134871. 3
485584134872. 4

Question Number : 353 Question Id : 48558433718 Question Type : MCQ Option Shuffling : No Is Question Mandatory : No Calculator : None Response Time : N.A Think Time : N.A Minimum Instruction Time : 0

Correct Marks : 5 Wrong Marks : 1

Question Key Details :

Key	Value
Comprehension	MCQ4

'ஏஷலஸ் எனும் கிரேக்க முக்கோணவியலில் உயிர் தப்பிய ஒன்று

1. பெர்ஷியர்களுடையது
2. ஓரெஸ்டியா
3. ஆகமெம்னேன்
4. யூமேனைட்ஸ்

Options :

485584134869. 1
485584134870. 2
485584134871. 3
485584134872. 4

Question Number : 354 Question Id : 48558433719 Question Type : MCQ Option Shuffling : No Is Question Mandatory : No Calculator : None Response Time : N.A Think Time : N.A Minimum Instruction Time : 0

Correct Marks : 5 Wrong Marks : 1

Question Key Details :

Key	Value
Comprehension	MCQ4

Who among the following is NOT an acclaimed Shakespearean actor?

1. Charles Kean
2. Henry Irving
3. James Burbage
4. Laurence Olivier

Options :

485584134873. 1
485584134874. 2
485584134875. 3
485584134876. 4

Question Number : 354 Question Id : 48558433719 Question Type : MCQ Option Shuffling : No Is Question Mandatory : No Calculator : None Response Time : N.A Think Time : N.A Minimum Instruction Time : 0

Correct Marks : 5 Wrong Marks : 1

Question Key Details :

Key	Value
Comprehension	MCQ4

பிவருபவர்களுள் எவர் ஷேக்ஸ்பியரின் நடிகனாக பரைசாற்றபடாதவர் ஆவார்?

1. சார்லஸ் கீன்
2. ஹென்ரி இர்விங்
3. ஜேம்ஸ் புர்பேஜ்
4. லாரன்ஸ் ஒலிவர்

Options :

485584134873. 1
485584134874. 2
485584134875. 3
485584134876. 4

Question Number : 355 Question Id : 48558433720 Question Type : MCQ Option Shuffling : No Is Question Mandatory : No Calculator : None Response Time : N.A Think Time : N.A Minimum Instruction Time : 0

Correct Marks : 5 Wrong Marks : 1

Question Key Details :

Key	Value
Comprehension	MCQ4

Which among the following plays is written by Anton Chekhov?

1. The Lower Depths
2. The Lesson
3. The Seagull
4. The Weavers

Options :

485584134877. 1
485584134878. 2
485584134879. 3
485584134880. 4

Question Number : 355 Question Id : 48558433720 Question Type : MCQ Option Shuffling : No Is Question Mandatory : No Calculator : None Response Time : N.A Think Time : N.A Minimum Instruction Time : 0

Correct Marks : 5 Wrong Marks : 1

Question Key Details :

Key	Value
Comprehension	MCQ4

பின்வருவனவற்றுள் எது அன்டன் செக்கோவ் என்பவரால் எழுதப்பட்ட நாடகம் ஆகும்?

1. து லோயர் டெப்த்ஸ்
2. து லெசன்
3. து சீகல்
4. து வீவர்ஸ்

Options :

485584134877. 1
485584134878. 2
485584134879. 3
485584134880. 4

Question Number : 356 Question Id : 48558433721 Question Type : MCQ Option Shuffling : No Is Question Mandatory : No Calculator : None Response Time : N.A Think Time : N.A Minimum Instruction Time : 0

Correct Marks : 5 Wrong Marks : 1

Question Key Details :

Key	Value
Comprehension	MCQ4

Which among the following plays is NOT written by Samuel Beckett?

1. Waiting for Godot
2. Happy days
3. The Birthday Party
4. Endgame

Options :

485584134881. 1
485584134882. 2
485584134883. 3
485584134884. 4

Question Number : 356 Question Id : 48558433721 Question Type : MCQ Option Shuffling : No Is Question Mandatory : No Calculator : None Response Time : N.A Think Time : N.A Minimum Instruction Time : 0

Correct Marks : 5 Wrong Marks : 1

Question Key Details :

Key	Value
Comprehension	MCQ4

பின்வருவனவற்றுள் எது சாமுவேல் பெக்கட் என்பவரால் எழுதப்படாத நாடகம் ஆகும்?

1. வைட்டிங் ஃபார் கோடாட்
2. ஹேப்பி டேஸ்
3. து பிரத்தே பார்டி
4. என்ட் கேம்

Options :

485584134881. 1
485584134882. 2
485584134883. 3
485584134884. 4

Question Number : 357 Question Id : 48558433722 Question Type : MCQ Option Shuffling : No Is Question Mandatory : No Calculator : None Response Time : N.A Think Time : N.A Minimum Instruction Time : 0

Correct Marks : 5 Wrong Marks : 1

Question Key Details :

Key	Value
Comprehension	MCQ4

Meyerhold's contribution to theatre was:

1. Realism
2. Constructivism
3. Alienation
4. Fantastic Realism

Options :

485584134885. 1
485584134886. 2
485584134887. 3
485584134888. 4

Question Number : 357 Question Id : 48558433722 Question Type : MCQ Option Shuffling : No Is Question Mandatory : No Calculator : None Response Time : N.A Think Time : N.A Minimum Instruction Time : 0

Correct Marks : 5 Wrong Marks : 1

Question Key Details :

Key	Value
Comprehension	MCQ4

நாடக அரங்கிற்கு மேயர் ஹோல்டு என்பவரது பங்களிப்பானது:

1. ரியலிஸம்
2. கன்ஸ்டிரக்டிவிஸம்
3. ஏலியனேஷன்
4. ஃபாண்டஸிக் ரியலிஸம்

Options :

485584134885. 1
485584134886. 2
485584134887. 3
485584134888. 4

Question Number : 358 Question Id : 48558433723 Question Type : MCQ Option Shuffling : No Is Question Mandatory : No Calculator : None Response Time : N.A Think Time : N.A Minimum Instruction Time : 0

Correct Marks : 5 Wrong Marks : 1

Question Key Details :

Key	Value
Comprehension	MCQ4

On the Picture Frame stage, the inner proscenium consists of a floor-length side drapes, which are called:

1. Projections
2. Grand draperies
3. Tormentors
4. Teasers

Options :

485584134889. 1
485584134890. 2
485584134891. 3
485584134892. 4

Question Number : 358 Question Id : 48558433723 Question Type : MCQ Option Shuffling : No Is Question Mandatory : No Calculator : None Response Time : N.A Think Time : N.A Minimum Instruction Time : 0

Correct Marks : 5 Wrong Marks : 1

Question Key Details :

Key	Value
Comprehension	MCQ4

படச்சட்ட அரங்கு மேடை மீதான, உள் ப்ரோஸனியம் என்பது தரை-நீள பக்க விரிப்புத்திரைகள் கொண்டிருக்கும். இது இவ்வாறு அழைக்கப்படும்

1. ப்ரொஜக்ஷன்ஸ்
2. பிரம்மாண்ட திரை விரிப்புகள்
3. டோர்மென்டார்ஸ்
4. டீசர்ஸ்

Options :

485584134889. 1
485584134890. 2
485584134891. 3
485584134892. 4

Question Number : 359 Question Id : 48558433724 Question Type : MCQ Option Shuffling : No Is Question Mandatory : No Calculator : None Response Time : N.A Think Time : N.A Minimum Instruction Time : 0

Correct Marks : 5 Wrong Marks : 1

Question Key Details :

Key	Value
Comprehension	MCQ4

A fire-retardant curtain that can be lowered to fill the proscenium arch, is called:

1. Front Curtain
2. Asbestos Curtain
3. Back Curtain
4. Cyclorama

Options :

485584134893. 1
485584134894. 2
485584134895. 3
485584134896. 4

Question Number : 359 Question Id : 48558433724 Question Type : MCQ Option Shuffling : No Is Question Mandatory : No Calculator : None Response Time : N.A Think Time : N.A Minimum Instruction Time : 0

Correct Marks : 5 Wrong Marks : 1

Question Key Details :

Key	Value
Comprehension	MCQ4

ப்ரோஸனிய வளைவை கீழ் இறங்குவதன் மூலம் நிரப்பவல்ல தீ-விலக்கு திரை என்பது இவ்வாறு அழைக்கப்படும்

1. முன் திரை
2. அஸ்பஸ்டாஸ் திரை
3. பின் திரை
4. சைக்ளோராமா

Options :

485584134893. 1
485584134894. 2
485584134895. 3
485584134896. 4

Question Number : 360 Question Id : 48558433725 Question Type : MCQ Option Shuffling : No Is Question Mandatory : No Calculator : None Response Time : N.A Think Time : N.A Minimum Instruction Time : 0

Correct Marks : 5 Wrong Marks : 1

Question Key Details :

Key	Value
Comprehension	MCQ4

What is used as foundation or base for the rest of the Makeup?

1. Greasepaint
2. Mascara
3. Rouge
4. Powder

Options :

485584134897. 1
485584134898. 2
485584134899. 3
485584134900. 4

Question Number : 360 Question Id : 48558433725 Question Type : MCQ Option Shuffling : No Is Question Mandatory : No Calculator : None Response Time : N.A Think Time : N.A Minimum Instruction Time : 0

Correct Marks : 5 Wrong Marks : 1

Question Key Details :

Key	Value
Comprehension	MCQ4

ஓப்பனையின் பிற பாகத்திற்கு ஆதாரமாக அல்லது அடிப்படையாக விளங்குவது எது?

1. கிரீஸ் வண்ணப்பூச்சு
2. மஸ்காரா
3. ரௌக்
4. பெளடர்

Options :

485584134897. 1
485584134898. 2
485584134899. 3
485584134900. 4

Question Number : 361 Question Id : 48558433726 Question Type : MCQ Option Shuffling : No Is Question Mandatory : No Calculator : None Response Time : N.A Think Time : N.A Minimum Instruction Time : 0

Correct Marks : 5 Wrong Marks : 1

Question Key Details :

Key	Value
Comprehension	MCQ4

The three plays written by Kalidasa are:

- A. Malvika Agnimitram
- B. Abhijnan Shakuntalam
- C. Svapna Vasavdattam
- D. Vikramorvashiyam
- E. Uttara Ramacharitam

Choose the correct answer from the options given below:

1. D, E and B only
2. A, B and D only
3. B, C and E only
4. C, D and A only

Options :

485584134901. 1
485584134902. 2
485584134903. 3
485584134904. 4

Question Number : 361 Question Id : 48558433726 Question Type : MCQ Option Shuffling : No Is Question Mandatory : No Calculator : None Response Time : N.A Think Time : N.A Minimum Instruction Time : 0

Correct Marks : 5 Wrong Marks : 1

Question Key Details :

Key	Value
-----	-------

காளிதாஸரால் எழுதப்பட்ட மூன்று காவியங்களாவன:

- A. மாளவிகா அக்னிமித்ரம்
- B. அபிஞ்ஞான சாகுந்தலம்
- C. ஸ்வப்ன வாசவதத்தம்
- D. விக்ரமோர்வஷியம்
- E. உத்தர இராமசரித்திரம்

கீழே தரப்பட்டுள்ள வாய்ப்புகளில் இருந்து சரியான விடையைத் தேர்ந்தெடுக்கவும்:

- 1. D, E மற்றும் B மட்டும்
- 2. A, B மற்றும் D மட்டும்
- 3. B, C மற்றும் E மட்டும்
- 4. C, D மற்றும் A மட்டும்

Options :

- 485584134901. 1
- 485584134902. 2
- 485584134903. 3
- 485584134904. 4

Question Number : 362 Question Id : 48558433727 Question Type : MCQ Option Shuffling : No Is Question Mandatory : No Calculator : None Response Time : N.A Think Time : N.A Minimum Instruction Time : 0

Correct Marks : 5 Wrong Marks : 1

Question Key Details :

Key	Value
Comprehension	MCQ4

The three famous plays written by Rabindranath Tagore are:

- A. Visarjan
- B. Rajdarshan
- C. Dakghar
- D. Nabanna
- E. Muktheadhara

Choose the correct answer from the options given below:

- 1. D, A and C only
- 2. A, C and E only
- 3. B, D and A only
- 4. C, E and B only

Options :

- 485584134905. 1
- 485584134906. 2
- 485584134907. 3

485584134908. 4

Question Number : 362 Question Id : 48558433727 Question Type : MCQ Option Shuffling : No Is Question Mandatory : No Calculator : None Response Time : N.A Think Time : N.A Minimum Instruction Time : 0

Correct Marks : 5 Wrong Marks : 1

Question Key Details :

Key	Value
Comprehension	MCQ4

இரவீந்திரநாத் தாகூரால் எழுதப்பட்ட மூன்று பிரபலமான காவியங்களாவன:

- A. விஸர்ஜன்
- B. இராஜதர்ஷன்
- C. தாக்கார்
- D. நாபான்னா
- E. முக்ததாரா

கீழே தரப்பட்டுள்ள வாய்ப்புகளில் இருந்து சரியான விடையைத் தேர்ந்தெடுக்கவும்:

1. D, A மற்றும் C மட்டும்
2. A, C and E மட்டும்
3. B, D மற்றும் A மட்டும்
4. C, E மற்றும் B மட்டும்

Options :

- 485584134905. 1
- 485584134906. 2
- 485584134907. 3
- 485584134908. 4

Question Number : 363 Question Id : 48558433728 Question Type : MCQ Option Shuffling : No Is Question Mandatory : No Calculator : None Response Time : N.A Think Time : N.A Minimum Instruction Time : 0

Correct Marks : 5 Wrong Marks : 1

Question Key Details :

Key	Value
Comprehension	MCQ4

Identify from the following the three Shakespearean Comedies:

- A. Julius Caesar
- B. The Comedy of Errors
- C. The Two Gentlemen of Verona
- D. The Taming of the Shrew
- E. King Lear

Choose the correct answer from the options given below:

- 1. B, C and D only
- 2. A, B and C only
- 3. C, D and E only
- 4. A, C and E only

Options :

- 485584134909. 1
- 485584134910. 2
- 485584134911. 3
- 485584134912. 4

Question Number : 363 Question Id : 48558433728 Question Type : MCQ Option Shuffling : No Is Question Mandatory : No Calculator : None Response Time : N.A Think Time : N.A Minimum Instruction Time : 0

Correct Marks : 5 Wrong Marks : 1

Question Key Details :

Key	Value
Comprehension	MCQ4

பின்வருவனவற்றிலிருந்து ஷேக்ஸ்பியரின் மூன்று நகைச்சுவை நாடகங்களைக் கண்டறிக:

- A. ஜூலியஸ் சீசர்
- B. தி காமெடி ஆப் எரர்ஸ்
- C. தி டூ ஜென்டில்மேன் ஆப் வெரோனா
- D. தி டேமிங் ஆப் தி ஷ்ரூ
- E. கிங் லியர்

கீழே தரப்பட்டுள்ள வாய்ப்புகளில் இருந்து சரியான விடையைத் தேர்ந்தெடுக்கவும்:

- 1. B, C மற்றும் D மட்டும்
- 2. A, B மற்றும் C மட்டும்
- 3. C, D மற்றும் E மட்டும்
- 4. A, C மற்றும் E மட்டும்

Options :

- 485584134909. 1
- 485584134910. 2
- 485584134911. 3

Question Number : 364 Question Id : 48558433729 Question Type : MCQ Option Shuffling : No Is Question Mandatory : No Calculator : None Response Time : N.A Think Time : N.A Minimum Instruction Time : 0

Correct Marks : 5 Wrong Marks : 1

Question Key Details :

Key	Value
Comprehension	MCQ4

Identify from among the following, the three plays written by Harold Pinter:

- A. Homecoming
- B. The Caretaker
- C. The Chairs
- D. Endgame
- E. The Birthday Party

Choose the correct answer from the options given below:

- 1. A, B and E only
- 2. B, C and A only
- 3. C, D and B only
- 4. D, E and A only

Options :

- 485584134913. 1
- 485584134914. 2
- 485584134915. 3
- 485584134916. 4

Question Number : 364 Question Id : 48558433729 Question Type : MCQ Option Shuffling : No Is Question Mandatory : No Calculator : None Response Time : N.A Think Time : N.A Minimum Instruction Time : 0

Correct Marks : 5 Wrong Marks : 1

Question Key Details :

Key	Value
Comprehension	MCQ4

பின்வருவனவற்றுள் ஹெரால்டு பிண்டர் என்பவரால் எழுதப்பட்ட மூன்று நாடகங்களைக் கண்டறிக:

- A. ஹோம்கம்மிங்
- B. தி கேர்டேக்கர்
- C. தி சேர்ஸ்
- D. என்டுகேம்
- E. தி பர்த்டே பார்டி

கீழே தரப்பட்டுள்ள வாய்ப்புகளில் இருந்து சரியான விடையைத் தேர்ந்தெடுக்கவும்:

1. A, B மற்றும் E மட்டும்
2. B, C மற்றும் A மட்டும்
3. C, D மற்றும் B மட்டும்
4. D, E மற்றும் A மட்டும்

Options :

- 485584134913. 1
- 485584134914. 2
- 485584134915. 3
- 485584134916. 4

Question Number : 365 Question Id : 48558433730 Question Type : MCQ Option Shuffling : No Is Question Mandatory : No Calculator : None Response Time : N.A Think Time : N.A Minimum Instruction Time : 0

Correct Marks : 5 Wrong Marks : 1

Question Key Details :

Key	Value
Comprehension	MCQ4

Lee Strasberg was associated with which three of the following?

- A. Berliner Ensemble
- B. Royal Shakespeare Company
- C. Theatre Guild
- D. Group Theatre
- E. Actors' Studio

Choose the correct answer from the options given below:

1. A, B and D only
2. C, D and E only
3. B, C and D only
4. A, C and E only

Options :

- 485584134917. 1
- 485584134918. 2
- 485584134919. 3

Question Number : 365 Question Id : 48558433730 Question Type : MCQ Option Shuffling : No Is Question Mandatory : No Calculator : None Response Time : N.A Think Time : N.A Minimum Instruction Time : 0

Correct Marks : 5 Wrong Marks : 1

Question Key Details :

Key	Value
Comprehension	MCQ4

பின்வருவனவற்றில் எவையோடு லீ ஸ்டிராஸ்பெர்க் தொடர்புடையவர்?

- A. பெர்லினர் என்ஸாம்புல்
- B. ராயல் ஷேக்ஸ்பியர் கம்பெனி
- C. தியேட்டர் கில்டு
- D. குரூப் தியேட்டர்
- E. ஆக்டர்ஸ் ஸ்டுடியோ

கீழே தரப்பட்டுள்ள வாய்ப்புகளில் இருந்து சரியான விடையைத் தேர்ந்தெடுக்கவும்:

1. A, B மற்றும் D மட்டும்
2. C, D and E மட்டும்
3. B, C மற்றும் D மட்டும்
4. A, C மற்றும் E மட்டும்

Options :

- 485584134917. 1
- 485584134918. 2
- 485584134919. 3
- 485584134920. 4

Question Number : 366 Question Id : 48558433731 Question Type : MCQ Option Shuffling : No Is Question Mandatory : No Calculator : None Response Time : N.A Think Time : N.A Minimum Instruction Time : 0

Correct Marks : 5 Wrong Marks : 1

Question Key Details :

Key	Value
Comprehension	MCQ4

Match List I with List II

LIST I		LIST II	
A.	Kalidasa	I.	Svapna Vasavadattam
B.	Bhavabhuti	II.	Mricchakatikam
C.	Shudraka	III.	Abhijnan Shakuntalam
D.	Bhasa	IV.	Uttara Ramacharitam

Choose the correct answer from the options given below:

1. A-I, B-II, C-IV, D-III
2. A-II, B-III, C-I, D-IV
3. A-III, B-IV, C-II, D-I
4. A-IV, B-I, C-III, D-II

Options :

485584134921. 1
485584134922. 2
485584134923. 3
485584134924. 4

Question Number : 366 Question Id : 48558433731 Question Type : MCQ Option Shuffling : No Is Question Mandatory : No Calculator : None Response Time : N.A Think Time : N.A Minimum Instruction Time : 0

Correct Marks : 5 Wrong Marks : 1

Question Key Details :

Key	Value
Comprehension	MCQ4

பட்டியல் I ஐ பட்டியல் II உடன் பொருத்துக

பட்டியல் I		பட்டியல் II	
A.	காளிதாஸா	I.	ஸ்வப்ண வாஸவதத்தம்
B.	பாவபுட்டி	II.	ம்ருச்ச கடிகம்
C.	சூத்ரகா	III.	அபிஞ்ஞான சாகுந்தலம்
D.	பாஸா	IV.	உத்தர இராமசரிதம்

கீழே தரப்பட்டுள்ள வாய்ப்புகளில் இருந்து சரியான விடையைத் தேர்ந்தெடுக்கவும்:

1. A-I, B-II, C-IV, D-III
2. A-II, B-III, C-I, D-IV
3. A-III, B-IV, C-II, D-I
4. A-IV, B-I, C-III, D-II

Options :

485584134921. 1
485584134922. 2
485584134923. 3
485584134924. 4

Question Number : 367 Question Id : 48558433732 Question Type : MCQ Option Shuffling : No Is Question Mandatory : No Calculator : None Response Time : N.A Think Time : N.A Minimum Instruction Time : 0

Correct Marks : 5 Wrong Marks : 1

Question Key Details :

Key	Value
Comprehension	MCQ4

Match List I with List II

LIST I		LIST II	
A.	Vijaya Mehta	I.	Santu Rangili
B.	Satyadev Dubey	II.	Andha Yug
C.	E. Alkazi	III.	Are Mayavi Sarovar
D.	Pravin Joshi	IV.	Ek Shunya Bajirao

Choose the correct answer from the options given below:

1. A-II, B-I, C-IV, D-III
2. A-III, B-II, C-I, D-IV
3. A-IV, B-III, C-II, D-I
4. A-I, B-IV, C-III, D-II

Options :

485584134925. 1
485584134926. 2
485584134927. 3
485584134928. 4

Question Number : 367 Question Id : 48558433732 Question Type : MCQ Option Shuffling : No Is Question Mandatory : No Calculator : None Response Time : N.A Think Time : N.A Minimum Instruction Time : 0

Correct Marks : 5 Wrong Marks : 1

Question Key Details :

Key	Value
Comprehension	MCQ4

பட்டியல் I ஐ பட்டியல் II உடன் பொருத்துக

பட்டியல் I		பட்டியல் II	
A.	விஜய மேத்தா	I.	சாந்து ரங்கிலி
B.	சத்யதேவ தூபே	II.	அந்தா யுக்
C.	E. அல்கசி	III.	ஆர் மாயாவி சரோவர்
D.	பிரவீன் ஜோஷி	IV.	ஏக் ஷூன்ய பாஜிராவ்

கீழே தரப்பட்டுள்ள வாய்ப்புகளில் இருந்து சரியான விடையைத் தேர்ந்தெடுக்கவும்:

1. A-II, B-I, C-IV, D-III
2. A-III, B-II, C-I, D-IV
3. A-IV, B-III, C-II, D-I
4. A-I, B-IV, C-III, D-II

Options :

485584134925. 1
 485584134926. 2
 485584134927. 3
 485584134928. 4

Question Number : 368 Question Id : 48558433733 Question Type : MCQ Option Shuffling : No Is Question Mandatory : No Calculator : None Response Time : N.A Think Time : N.A Minimum Instruction Time : 0

Correct Marks : 5 Wrong Marks : 1

Question Key Details :

Key	Value
Comprehension	MCQ4

Match List I with List II

LIST I		LIST II	
Plays		Characters	
A.	Julius Caesar	I.	Horatio
B.	Othello	II.	King Duncan
C.	Macbeth	III.	Desdemona
D.	Hamlet	IV.	Marcus Brutus

Choose the correct answer from the options given below:

1. A-IV, B-III, C-II, D-I
2. A-I, B-II, C-III, D-IV
3. A-IV, B-I, C-III, D-II
4. A-II, B-III, C-I, D-IV

Options :

485584134929. 1
 485584134930. 2
 485584134931. 3
 485584134932. 4

Question Number : 368 Question Id : 48558433733 Question Type : MCQ Option Shuffling : No Is Question Mandatory : No Calculator : None Response Time : N.A Think Time : N.A Minimum Instruction Time : 0

Correct Marks : 5 Wrong Marks : 1

Question Key Details :

Key	Value
Comprehension	MCQ4

பட்டியல் I ஐ பட்டியல் II உடன் பொருத்துக

பட்டியல் I		பட்டியல் II	
நாடகங்கள்		கதாப்பாத்திரங்கள்	
A.	ஜூலியஸ் சீசர்	I.	ஹொராடியோ
B.	ஓதெல்லோ	II.	கிங் டங்கன்
C.	மெக்பெத்	III.	டெஸ்டிமோனோ
D.	ஹெம்ஸெட்	IV.	மார்க்ஸ் புரூட்டஸ்

கீழே தரப்பட்டுள்ள வாய்ப்புகளில் இருந்து சரியான விடையைத் தேர்ந்தெடுக்கவும்:

1. A-IV, B-III, C-II, D-I
2. A-I, B-II, C-III, D-IV
3. A-IV, B-I, C-III, D-II
4. A-II, B-III, C-I, D-IV

Options :

485584134929. 1
485584134930. 2
485584134931. 3
485584134932. 4

Question Number : 369 Question Id : 48558433734 Question Type : MCQ Option Shuffling : No Is Question Mandatory : No Calculator : None Response Time : N.A Think Time : N.A Minimum Instruction Time : 0

Correct Marks : 5 Wrong Marks : 1

Question Key Details :

Key	Value
Comprehension	MCQ4

Match List I with List II

LIST I		LIST II	
A.	Ibsen Henrik	I.	The Father
B.	Chekhov Anton	II.	Ghosts
C.	Strindberg August	III.	Death of a Salesman
D.	Arthur Miller	IV.	The Cherry Orchard

Choose the correct answer from the options given below:

1. A-I, B-III, C-IV, D-II
2. A-II, B-IV, C-I, D-III
3. A-III, B-I, C-II, D-IV
4. A-IV, B-II, C-III, D-I

Options :

485584134933. 1
485584134934. 2
485584134935. 3

485584134936. 4

Question Number : 369 Question Id : 48558433734 Question Type : MCQ Option Shuffling : No Is Question Mandatory : No Calculator : None Response Time : N.A Think Time : N.A Minimum Instruction Time : 0

Correct Marks : 5 Wrong Marks : 1

Question Key Details :

Key	Value
Comprehension	MCQ4

பட்டியல் I ஐ பட்டியல் II உடன் பொருத்துக

பட்டியல் I		பட்டியல் II	
A. இப்ஸன் ஹென்ரிக்	I.	தி ஃபாதர்	
B. செக்கோவ் அன்டன்	II.	கோஸ்ட்ஸ்	
C. ஸ்டிரின்பர்க் ஆகஸ்டு	III.	டெத் ஆஃப் ஏ சேல்ஸ்மென்	
D. ஆர்தர் மில்லர்	IV.	தி செர்ரி ஆர்செர்டு	

கீழே தரப்பட்டுள்ள வாய்ப்புகளில் இருந்து சரியான விடையைத் தேர்ந்தெடுக்கவும்:

1. A-I, B-III, C-IV, D-II
2. A-II, B-IV, C-I, D-III
3. A-III, B-I, C-II, D-IV
4. A-IV, B-II, C-III, D-I

Options :

485584134933. 1
485584134934. 2
485584134935. 3
485584134936. 4

Question Number : 370 Question Id : 48558433735 Question Type : MCQ Option Shuffling : No Is Question Mandatory : No Calculator : None Response Time : N.A Think Time : N.A Minimum Instruction Time : 0

Correct Marks : 5 Wrong Marks : 1

Question Key Details :

Key	Value
Comprehension	MCQ4

Give the correct sequence of the following Traditional Theatre Forms according to their Geographical origin from South to North.

- A. Tamasha
- B. Yakshagana
- C. Bhand Jashna
- D. Kutiyattam
- E. Svanga

Choose the correct answer from the options given below:

- 1. D, B, A, E, C
- 2. E, C, B, A, D
- 3. A, D, C, B, E
- 4. B, E, D, C, A

Options :

- 485584134937. 1
- 485584134938. 2
- 485584134939. 3
- 485584134940. 4

Question Number : 370 Question Id : 48558433735 Question Type : MCQ Option Shuffling : No Is Question Mandatory : No Calculator : None Response Time : N.A Think Time : N.A Minimum Instruction Time : 0

Correct Marks : 5 Wrong Marks : 1

Question Key Details :

Key	Value
Comprehension	MCQ4

தெற்கிலிருந்து வடக்கு நோக்கிய புவியியல் தோற்றத்தின் அடிப்படையில், பின்வரும் பாரம்பரிய நாடக அரங்குகளின் சரியான அடுக்கு வரிசையைத் தருக.

- A. தமாஷா
- B. யக்ஷகானா
- C. பாந்த் ஜஷ்னா
- D. குட்டியாட்டம்
- E. ஸ்வன்கா

கீழே தரப்பட்டுள்ள வாய்ப்புகளில் இருந்து சரியான விடையைத் தேர்ந்தெடுக்கவும்:

- 1. D, B, A, E, C
- 2. E, C, B, A, D
- 3. A, D, C, B, E
- 4. B, E, D, C, A

Options :

- 485584134937. 1
- 485584134938. 2

485584134939. 3

485584134940. 4

Political Science

Group Number :	11
Group Id :	485584749
Group Maximum Duration :	45
Group Minimum Duration :	45
Show Attended Group? :	No
Edit Attended Group? :	No
Break time :	0
Group Marks :	200
Is this Group for Examiner? :	No
Examiner permission :	Cant View
Show Progress Bar? :	No

Political Science

Section Id :	485584867
Section Number :	1
Section type :	Online
Mandatory or Optional :	Mandatory
Number of Questions :	50
Number of Questions to be attempted :	40
Section Marks :	200
Enable Mark as Answered Mark for Review and Clear Response :	Yes
Maximum Instruction Time :	0
Sub-Section Number :	1
Sub-Section Id :	4855842442
Question Shuffling Allowed :	Yes
Is Section Default? :	null

Question Number : 371 Question Id : 48558433736 Question Type : MCQ Option Shuffling : No Is Question Mandatory : No Calculator : None Response Time : N.A Think Time : N.A Minimum Instruction Time : 0

Correct Marks : 5 Wrong Marks : 1

Question Key Details :

Key	Value
Comprehension	MCQ

Prime minister of India addressed a special speech on 14th and 15th August midnight.

It was called:

1. Trust in the Nation
2. Tryst with India
3. Tryst with destiny
4. Independent India

Options :

- 485584134941. 1
- 485584134942. 2
- 485584134943. 3
- 485584134944. 4

Question Number : 372 Question Id : 48558433737 Question Type : MCQ Option Shuffling : No Is Question Mandatory : No Calculator : None Response Time : N.A Think Time : N.A Minimum Instruction Time : 0

Correct Marks : 5 Wrong Marks : 1

Question Key Details :

Key	Value
Comprehension	MCQ

State requisition Act was passed in which year?

- 1. 1952
- 2. 1954
- 3. 1956
- 4. 1958

Options :

- 485584134945. 1
- 485584134946. 2
- 485584134947. 3
- 485584134948. 4

Question Number : 373 Question Id : 48558433738 Question Type : MCQ Option Shuffling : No Is Question Mandatory : No Calculator : None Response Time : N.A Think Time : N.A Minimum Instruction Time : 0

Correct Marks : 5 Wrong Marks : 1

Question Key Details :

Key	Value
Comprehension	MCQ

Given below are two statements: one is labelled as Assertion A and other is labelled as Reason R

Assertion A: Towards the end of 1990's the election commission started using the EVM.

Reason R: By 2004 the entire country had shifted to the EVM. But it was decided to place inside each polling booth a box for each candidate.

In the light of the above statements, choose the correct answer from the options given below

- 1. Both A and R are true and R is the correct explanation of A
- 2. Both A and R are true but R is the NOT correct explanation of A
- 3. A is true but R is not false
- 4. A is false but R is true

Options :

- 485584134949. 1
- 485584134950. 2

485584134951. 3
485584134952. 4

Question Number : 374 Question Id : 48558433739 Question Type : MCQ Option Shuffling : No Is Question Mandatory : No Calculator : None Response Time : N.A Think Time : N.A Minimum Instruction Time : 0

Correct Marks : 5 Wrong Marks : 1

Question Key Details :

Key	Value
Comprehension	MCQ

Match List I with List II

LIST I		LIST II	
A.	Adopted Buddhism in 1956 and the leader of anti-caste movement	I.	PRI
B.	Founded in 1929, as National revolutionary party	II.	Acharya Narendra Dev
C.	Freedom fighter and a scholar of Buddhism	III.	Bhartiya Jan Sangh
D.	In 1951 party was formed with Shyam Prasad Mukherjee	IV.	Babasaheb Bhimrao Ambedkar

Choose the correct answer from the options given below:

1. A-I, B-II, C-III, D-IV
2. A-IV, B-I, C-II, D-III
3. A-III, B-II, C-IV, D-I
4. A-IV, B-III, C-II, D-I

Options :

485584134953. 1
485584134954. 2
485584134955. 3
485584134956. 4

Question Number : 375 Question Id : 48558433740 Question Type : MCQ Option Shuffling : No Is Question Mandatory : No Calculator : None Response Time : N.A Think Time : N.A Minimum Instruction Time : 0

Correct Marks : 5 Wrong Marks : 1

Question Key Details :

Key	Value
Comprehension	MCQ

Who was the director of Marathi Film Simhasan?

1. Jabbar Patel
2. Vijay Tendulkar
3. Datta Bhat
4. Mohan Agashe

Options :

485584134957. 1
485584134958. 2

485584134959. 3
485584134960. 4

Question Number : 376 Question Id : 48558433741 Question Type : MCQ Option Shuffling : No Is Question Mandatory : No Calculator : None Response Time : N.A Think Time : N.A Minimum Instruction Time : 0

Correct Marks : 5 Wrong Marks : 1

Question Key Details :

Key	Value
Comprehension	MCQ

A section of the big industrialist got together in 1944 and drafted a joint proposal for setting up a planned economy in the country. It was called _____

1. Industries Plan
2. New strategy of business
3. Bombay Plan
4. Revised Plan

Options :

485584134961. 1
485584134962. 2
485584134963. 3
485584134964. 4

Question Number : 377 Question Id : 48558433742 Question Type : MCQ Option Shuffling : No Is Question Mandatory : No Calculator : None Response Time : N.A Think Time : N.A Minimum Instruction Time : 0

Correct Marks : 5 Wrong Marks : 1

Question Key Details :

Key	Value
Comprehension	MCQ

NITI Ayog came into existence on which date?

1. 7 January 2015
2. 1 January 2015
3. 10 January 2015
4. 12 January 2015

Options :

485584134965. 1
485584134966. 2
485584134967. 3
485584134968. 4

Question Number : 378 Question Id : 48558433743 Question Type : MCQ Option Shuffling : No Is Question Mandatory : No Calculator : None Response Time : N.A Think Time : N.A Minimum Instruction Time : 0

Correct Marks : 5 Wrong Marks : 1

Question Key Details :

Key	Value
-----	-------

Given below are two statements:

Statements I: The second five year plan stressed on heavy Industries.

Statements II: It declared that socialist pattern of society was its goal.

In the light of the above statements, choose the most appropriate answer from the options given below:

1. Both statement I and statement II are correct
2. Both statement I and statement II are incorrect
3. Statement I is correct but statement II is incorrect
4. Statement I is incorrect but statement II is correct

Options :

485584134969. 1

485584134970. 2

485584134971. 3

485584134972. 4

Question Number : 379 Question Id : 48558433744 Question Type : MCQ Option Shuffling : No Is Question Mandatory : No Calculator : None Response Time : N.A Think Time : N.A Minimum Instruction Time : 0

Correct Marks : 5 Wrong Marks : 1

Question Key Details :

Key	Value
Comprehension	MCQ

Choose the name of the author of 'Economy of Permanence'

1. K. N. Raj
2. P. C. Mahalannobis
3. J. C. Kumarappa
4. Karuna Banerjee

Options :

485584134973. 1

485584134974. 2

485584134975. 3

485584134976. 4

Question Number : 380 Question Id : 48558433745 Question Type : MCQ Option Shuffling : No Is Question Mandatory : No Calculator : None Response Time : N.A Think Time : N.A Minimum Instruction Time : 0

Correct Marks : 5 Wrong Marks : 1

Question Key Details :

Key	Value
Comprehension	MCQ

In which year Britain attacked Egypt over the Sues Canal issue

1. 1955
2. 1956
3. 1957
4. 1958

Options :

485584134977. 1
485584134978. 2
485584134979. 3
485584134980. 4

Question Number : 381 Question Id : 48558433746 Question Type : MCQ Option Shuffling : No Is Question Mandatory : No Calculator : None Response Time : N.A Think Time : N.A Minimum Instruction Time : 0

Correct Marks : 5 Wrong Marks : 1

Question Key Details :

Key	Value
Comprehension	MCQ

In which Article of Indian constitution lays down some Directive Principles of state Policy on Promotion of International peace and security

1. Article 51
2. Article 50
3. Article 49
4. Article 48

Options :

485584134981. 1
485584134982. 2
485584134983. 3
485584134984. 4

Question Number : 382 Question Id : 48558433747 Question Type : MCQ Option Shuffling : No Is Question Mandatory : No Calculator : None Response Time : N.A Think Time : N.A Minimum Instruction Time : 0

Correct Marks : 5 Wrong Marks : 1

Question Key Details :

Key	Value
Comprehension	MCQ

The first summit of NAM was held in Belgrade in _____

1. January 1961
2. March 1961
3. May 1961
4. September 1961

Options :

- 485584134985. 1
- 485584134986. 2
- 485584134987. 3
- 485584134988. 4

Question Number : 383 Question Id : 48558433748 Question Type : MCQ Option Shuffling : No Is Question Mandatory : No Calculator : None Response Time : N.A Think Time : N.A Minimum Instruction Time : 0

Correct Marks : 5 Wrong Marks : 1

Question Key Details :

Key	Value
Comprehension	MCQ

Frankly-----my impression (of Zhou Enlai) was very favourable _____ the Chinese premier is, I believe a good type of man and trust worthy

Who wrote there words in letter in December 1956

1. C Rajgopalachari
2. Mahatma Gandhi
3. Sardar Patel
4. Jawahar Lal Nehru

Options :

- 485584134989. 1
- 485584134990. 2
- 485584134991. 3
- 485584134992. 4

Question Number : 384 Question Id : 48558433749 Question Type : MCQ Option Shuffling : No Is Question Mandatory : No Calculator : None Response Time : N.A Think Time : N.A Minimum Instruction Time : 0

Correct Marks : 5 Wrong Marks : 1

Question Key Details :

Key	Value
Comprehension	MCQ

The first nuclear explosion undertaken by India in which year

1. 1973
2. 1974
3. 1975
4. 1976

Options :

485584134993. 1
485584134994. 2
485584134995. 3
485584134996. 4

Question Number : 385 Question Id : 48558433750 Question Type : MCQ Option Shuffling : No Is Question Mandatory : No Calculator : None Response Time : N.A Think Time : N.A Minimum Instruction Time : 0

Correct Marks : 5 Wrong Marks : 1

Question Key Details :

Key	Value
Comprehension	MCQ

Match List I with List II

LIST I		LIST II	
A.	The goal of India's Foreign Policy in the period 1950-1964	I.	Tibetan spiritual leader who crossed over to India
B.	Panchsheel	II.	Preservation of territorial integrity sovereignty and economic development
C.	Bandung Conference	III.	Five principles of peaceful co-existence
D.	Dalai Lama	IV.	Led to the establishment of NAM

Choose the correct answer from the options given below:

1. A-I, B-II, C-III, D-IV
2. A-II, B-III, C-IV, D-I
3. A-II, B-IV, C-III, D-I
4. A-I, B-III, C-II, D-IV

Options :

485584134997. 1
485584134998. 2
485584134999. 3
485584135000. 4

Question Number : 386 Question Id : 48558433751 Question Type : MCQ Option Shuffling : No Is Question Mandatory : No Calculator : None Response Time : N.A Think Time : N.A Minimum Instruction Time : 0

Correct Marks : 5 Wrong Marks : 1

Question Key Details :

Key	Value
Comprehension	MCQ

Who coined the famous slogan Jai Jawan Jai Kisan

1. Jawaharlal Nehru
2. Lal Bhadur Shastri
3. Lal Bahadur Lal
4. Mahatma Gandhi

Options :

- 485584135001. 1
- 485584135002. 2
- 485584135003. 3
- 485584135004. 4

Question Number : 387 Question Id : 48558433752 Question Type : MCQ Option Shuffling : No Is Question Mandatory : No Calculator : None Response Time : N.A Think Time : N.A Minimum Instruction Time : 0

Correct Marks : 5 Wrong Marks : 1

Question Key Details :

Key	Value
Comprehension	MCQ

Who introduced mid-day meal scheme for School Children.

1. K. Kamraj
2. K.N. Raj
3. Vinoba Bhave
4. K. Nizilingappa

Options :

- 485584135005. 1
- 485584135006. 2
- 485584135007. 3
- 485584135008. 4

Question Number : 388 Question Id : 48558433753 Question Type : MCQ Option Shuffling : No Is Question Mandatory : No Calculator : None Response Time : N.A Think Time : N.A Minimum Instruction Time : 0

Correct Marks : 5 Wrong Marks : 1

Question Key Details :

Key	Value
Comprehension	MCQ

Choose the name of the President of India from 1969 to 1974

1. Neelam Sanjeeva Reddy
2. V. V. Giri
3. Zakir Hussain
4. Fakhruddin Ali Ahmed

Options :

485584135009. 1
485584135010. 2
485584135011. 3
485584135012. 4

Question Number : 389 Question Id : 48558433754 Question Type : MCQ Option Shuffling : No Is Question Mandatory : No Calculator : None Response Time : N.A Think Time : N.A Minimum Instruction Time : 0

Correct Marks : 5 Wrong Marks : 1

Question Key Details :

Key	Value
Comprehension	MCQ

Who formed DMK as a Political Party in 1949

1. Ram Manohar Lohia
2. C. Natrajan Ananaduri
3. Nevile Maxwell
4. Karpoori Thakur

Options :

485584135013. 1
485584135014. 2
485584135015. 3
485584135016. 4

Question Number : 390 Question Id : 48558433755 Question Type : MCQ Option Shuffling : No Is Question Mandatory : No Calculator : None Response Time : N.A Think Time : N.A Minimum Instruction Time : 0

Correct Marks : 5 Wrong Marks : 1

Question Key Details :

Key	Value
Comprehension	MCQ

'Sampoorna Kranti ab nara hai, bhavi itihias hamara hai'

Above slogan is associated with which movement

1. Anti-Arrack-Movement
2. Bihar Movement
3. Gujrat Movement
4. Chipko Movement

Options :

485584135017. 1
485584135018. 2
485584135019. 3
485584135020. 4

Question Number : 391 Question Id : 48558433756 Question Type : MCQ Option Shuffling : No Is Question Mandatory : No Calculator : None Response Time : N.A Think Time : N.A Minimum Instruction Time : 0

Correct Marks : 5 Wrong Marks : 1

Question Key Details :

Key	Value
Comprehension	MCQ

In May 1977, The Janta Party government appointed which commission, to inquire into several aspects of allegation of abuse of authority.

1. Sheng Commission
2. Shai Commission
3. Shah Commission
4. J.P Commission

Options :

485584135021. 1
485584135022. 2
485584135023. 3
485584135024. 4

Question Number : 392 Question Id : 48558433757 Question Type : MCQ Option Shuffling : No Is Question Mandatory : No Calculator : None Response Time : N.A Think Time : N.A Minimum Instruction Time : 0

Correct Marks : 5 Wrong Marks : 1

Question Key Details :

Key	Value
Comprehension	MCQ

Who were the Deputy Prime Minister of India from 1967 to 1969

1. Devi Lal
2. Charan Singh
3. Jagjivan Ram
4. Morarji Dessai

Options :

485584135025. 1
485584135026. 2
485584135027. 3
485584135028. 4

Question Number : 393 Question Id : 48558433758 Question Type : MCQ Option Shuffling : No Is Question Mandatory : No Calculator : None Response Time : N.A Think Time : N.A Minimum Instruction Time : 0

Correct Marks : 5 Wrong Marks : 1

Question Key Details :

Key	Value
Comprehension	MCQ

Dalit Panthers, a militant organisation of Dalit Youth, was formed in which state in 1972

1. Kerala
2. Maharashtra
3. Bihar
4. West Bengal

Options :

485584135029. 1
485584135030. 2
485584135031. 3
485584135032. 4

Question Number : 394 Question Id : 48558433759 Question Type : MCQ Option Shuffling : No Is Question Mandatory : No Calculator : None Response Time : N.A Think Time : N.A Minimum Instruction Time : 0

Correct Marks : 5 Wrong Marks : 1

Question Key Details :

Key	Value
Comprehension	MCQ

"Our blood was spilled for this glorious city and what we got was the right to eat stories. Now, now we must explode the building that kisses the sky." Who is the author of above poem.

1. Jayant Karve
2. Eleavor Zelliot
3. Namdeo Dahasal
4. Raj Kumari Amrit Kaur

Options :

485584135033. 1
485584135034. 2
485584135035. 3
485584135036. 4

Question Number : 395 Question Id : 48558433760 Question Type : MCQ Option Shuffling : No Is Question Mandatory : No Calculator : None Response Time : N.A Think Time : N.A Minimum Instruction Time : 0

Correct Marks : 5 Wrong Marks : 1

Question Key Details :

Key	Value
Comprehension	MCQ

In which year RTI bill was tabled and received presidential assent.

1. June 2005
2. July 2006
3. June 2007
4. July 2008

Options :

485584135037. 1
485584135038. 2
485584135039. 3
485584135040. 4

Question Number : 396 Question Id : 48558433761 Question Type : MCQ Option Shuffling : No Is Question Mandatory : No Calculator : None Response Time : N.A Think Time : N.A Minimum Instruction Time : 0

Correct Marks : 5 Wrong Marks : 1

Question Key Details :

Key	Value
Comprehension	MCQ

Given below are two statements: one is labelled as **Assertion A** and the other is labelled as **Reason R**

Assertion A : Asom Gana Sangram Parishad organised themselves as a regional political party called Asom Gana Parishad

Reason R : It came to power in 1985 with the promise of resolving the foreign national problem as well as to build a 'Golden Assam'

In the light of the above statements, choose the **correct** answer from the options given below:

1. Both **A** and **R** are true and **R** is the correct explanation of **A**
2. Both **A** and **R** are true and **R** is **NOT** the correct explanation of **A**
3. **A** is true but **R** is false
4. **A** is false but **R** is true

Options :

- 485584135041. 1
- 485584135042. 2
- 485584135043. 3
- 485584135044. 4

Question Number : 397 Question Id : 48558433762 Question Type : MCQ Option Shuffling : No Is Question Mandatory : No Calculator : None Response Time : N.A Think Time : N.A Minimum Instruction Time : 0

Correct Marks : 5 Wrong Marks : 1

Question Key Details :

Key	Value
Comprehension	MCQ

The bomb dropped by the US on Hiroshima city was code named

1. Fat Man
2. Little Boy
3. Fat Woman
4. Little Girl

Options :

- 485584135045. 1
- 485584135046. 2
- 485584135047. 3
- 485584135048. 4

Question Number : 398 Question Id : 48558433763 Question Type : MCQ Option Shuffling : No Is Question Mandatory : No Calculator : None Response Time : N.A Think Time : N.A Minimum Instruction Time : 0

Correct Marks : 5 Wrong Marks : 1

Question Key Details :

Key	Value
Comprehension	MCQ

Name the leader who was the first Prime Minister of Ghana and founder figure of NAM.

1. Josip Broz
2. Kwame Nkrumah
3. Kwame Skrumah
4. Gamal Abdel

Options :

- 485584135049. 1
- 485584135050. 2
- 485584135051. 3
- 485584135052. 4

Question Number : 399 Question Id : 48558433764 Question Type : MCQ Option Shuffling : No Is Question Mandatory : No Calculator : None Response Time : N.A Think Time : N.A Minimum Instruction Time : 0

Correct Marks : 5 Wrong Marks : 1

Question Key Details :

Key	Value
Comprehension	MCQ

Name the founder of Bolshevik Communist Party.

1. Joseph Stalin
2. Vladimir Lenin
3. Boris Yeltsin
4. Leonid Brezhnev

Options :

- 485584135053. 1
- 485584135054. 2
- 485584135055. 3
- 485584135056. 4

Question Number : 400 Question Id : 48558433765 Question Type : MCQ Option Shuffling : No Is Question Mandatory : No Calculator : None Response Time : N.A Think Time : N.A Minimum Instruction Time : 0

Correct Marks : 5 Wrong Marks : 1

Question Key Details :

Key	Value
Comprehension	MCQ

Who was the first elected President of Russia?

1. Mikhail Gorbachev
2. Fidel Kastro
3. Boris Yeltsin
4. Joseph Stalin

Options :

485584135057. 1
485584135058. 2
485584135059. 3
485584135060. 4

Question Number : 401 Question Id : 48558433766 Question Type : MCQ Option Shuffling : No Is Question Mandatory : No Calculator : None Response Time : N.A Think Time : N.A Minimum Instruction Time : 0

Correct Marks : 5 Wrong Marks : 1

Question Key Details :

Key	Value
Comprehension	MCQ

- A. On 19 March 2003, the US launched its invasion of Iraq.
- B. US has lost over 3000 military personnel in the war
- C. The ostensible purpose of the invasion was to destroy Iraq from developing weapons at mass destruction
- D. More than forty other countries joined in the US led coalition of the willing after the UN refused to give its mandate to the invasion

Choose the most appropriate answer from the options given below:

1. A, C, D only
2. A, B, C only
3. A, B, D only
4. C, D, A only

Options :

485584135061. 1
485584135062. 2
485584135063. 3
485584135064. 4

Question Number : 402 Question Id : 48558433767 Question Type : MCQ Option Shuffling : No Is Question Mandatory : No Calculator : None Response Time : N.A Think Time : N.A Minimum Instruction Time : 0

Correct Marks : 5 Wrong Marks : 1

Question Key Details :

Key	Value
Comprehension	MCQ

In which year the Lisbon Treaty came in to force?

1. 2007
2. 2008
3. 2009
4. 2010

Options :

- 485584135065. 1
- 485584135066. 2
- 485584135067. 3
- 485584135068. 4

Question Number : 403 Question Id : 48558433768 Question Type : MCQ Option Shuffling : No Is Question Mandatory : No Calculator : None Response Time : N.A Think Time : N.A Minimum Instruction Time : 0

Correct Marks : 5 Wrong Marks : 1

Question Key Details :

Key	Value
Comprehension	MCQ

Bangladesh was a part of Pakistan from_____

1. 1947 to 1971
2. 1947 to 1969
3. 1948 to 1949
4. 1948 to 1969

Options :

- 485584135069. 1
- 485584135070. 2
- 485584135071. 3
- 485584135072. 4

Question Number : 404 Question Id : 48558433769 Question Type : MCQ Option Shuffling : No Is Question Mandatory : No Calculator : None Response Time : N.A Think Time : N.A Minimum Instruction Time : 0

Correct Marks : 5 Wrong Marks : 1

Question Key Details :

Key	Value
Comprehension	MCQ

In 2008, in which state the monarchy was abolished and emerged as a democratic republic?

1. Bhutan
2. Nepal
3. Bangladesh
4. Maldives

Options :

485584135073. 1
485584135074. 2
485584135075. 3
485584135076. 4

Question Number : 405 Question Id : 48558433770 Question Type : MCQ Option Shuffling : No Is Question Mandatory : No Calculator : None Response Time : N.A Think Time : N.A Minimum Instruction Time : 0

Correct Marks : 5 Wrong Marks : 1

Question Key Details :

Key	Value
Comprehension	MCQ

Name the 9th Secretary-General of UN.

1. Antonio Guterres
2. Ban Ki Moon
3. Kofi A. Annan
4. U. Thart

Options :

485584135077. 1
485584135078. 2
485584135079. 3
485584135080. 4

Question Number : 406 Question Id : 48558433771 Question Type : MCQ Option Shuffling : No Is Question Mandatory : No Calculator : None Response Time : N.A Think Time : N.A Minimum Instruction Time : 0

Correct Marks : 5 Wrong Marks : 1

Question Key Details :

Key	Value
Comprehension	MCQ

The world trade organisation sets the rules for....

1. Global Economy
2. Global Trade
3. Global Future
4. Global Issues

Options :

- 485584135081. 1
- 485584135082. 2
- 485584135083. 3
- 485584135084. 4

Question Number : 407 Question Id : 48558433772 Question Type : MCQ Option Shuffling : No Is Question Mandatory : No Calculator : None Response Time : N.A Think Time : N.A Minimum Instruction Time : 0

Correct Marks : 5 Wrong Marks : 1

Question Key Details :

Key	Value
Comprehension	MCQ

The Nuclear Non Proliferation Treaty of 1968 was an _____

1. Arms control treaty
2. Arms reduction treaty
3. Arms availability treaty
4. Arms for developed country

Options :

- 485584135085. 1
- 485584135086. 2
- 485584135087. 3
- 485584135088. 4

Question Number : 408 Question Id : 48558433773 Question Type : MCQ Option Shuffling : No Is Question Mandatory : No Calculator : None Response Time : N.A Think Time : N.A Minimum Instruction Time : 0

Correct Marks : 5 Wrong Marks : 1

Question Key Details :

Key	Value
Comprehension	MCQ

When was Earth Summit held in Rio-de-Janeiro?

1. June 1991
2. June 1992
3. June 1993
4. June 1994

Options :

485584135089. 1
485584135090. 2
485584135091. 3
485584135092. 4

Question Number : 409 Question Id : 48558433774 Question Type : MCQ Option Shuffling : No Is Question Mandatory : No Calculator : None Response Time : N.A Think Time : N.A Minimum Instruction Time : 0

Correct Marks : 5 Wrong Marks : 1

Question Key Details :

Key	Value
Comprehension	MCQ

India signed and ratified the 1997 Kyoto Protocol in

1. August 2001
2. August 1997
3. August 2003
4. August 2002

Options :

485584135093. 1
485584135094. 2
485584135095. 3
485584135096. 4

Question Number : 410 Question Id : 48558433775 Question Type : MCQ Option Shuffling : No Is Question Mandatory : No Calculator : None Response Time : N.A Think Time : N.A Minimum Instruction Time : 0

Correct Marks : 5 Wrong Marks : 1

Question Key Details :

Key	Value
Comprehension	MCQ

The energy Conservation Act was passed in India in which year?

1. 2000
2. 2001
3. 2002
4. 2003

Options :

- 485584135097. 1
- 485584135098. 2
- 485584135099. 3
- 485584135100. 4

Sub-Section Number : 2
Sub-Section Id : 4855842443
Question Shuffling Allowed : No
Is Section Default? : null

Question Number : 411 Question Id : 48558433776 Question Type : MCQ Option Shuffling : No Is Question Mandatory : No Calculator : None Response Time : N.A Think Time : N.A Minimum Instruction Time : 0

Correct Marks : 5 Wrong Marks : 1

Question Key Details :

Key	Value
Comprehension	Comp1

Read the paragraph given below and answer the following questions.

Shastri was the country's Prime Minister from 1964-1966. During Shastri's brief Prime Ministership, the country faced two major challenges. While India was still recovering from the economic implications of the war with China, failed monsoons, drought and serious food crisis presented a grave challenge. The country also faced a war with Pakistan in 1965. Shastri's famous slogan 'Jai Jawan Jai Kisan', symbolised the country's resolve to face both these challenges.

Shastri's Prime Ministership came to an abrupt end on 10 January 1966, when he suddenly expired in Tashkent, then in USSR and currently the capital of Uzbekistan. He was there to discuss and sign an agreement with Muhammad Ayub Khan, the then President of Pakistan, to end the war.

Lal Bahadur Shastri's Prime Ministership came to an abrupt end on _____

1. 10 January 1966
2. 10 February 1966
3. 10 January 1964
4. 10 February 1964

Options :

- 485584135101. 1
- 485584135102. 2
- 485584135103. 3
- 485584135104. 4

Question Number : 412 Question Id : 48558433777 Question Type : MCQ Option Shuffling : No Is Question Mandatory : No Calculator : None Response Time : N.A Think Time : N.A Minimum Instruction Time : 0

Correct Marks : 5 Wrong Marks : 1

Question Key Details :

Key	Value
Comprehension	Compl

Read the paragraph given below and answer the following questions.

Shastri was the country's Prime Minister from 1964-1966. During Shastri's brief Prime Ministership, the country faced two major challenges. While India was still recovering from the economic implications of the war with China, failed monsoons, drought and serious food crisis presented a grave challenge. The country also faced a war with Pakistan in 1965. Shastri's famous slogan 'Jai Jawan Jai Kisan', symbolised the country's resolve to face both these challenges.

Shastri's Prime Ministership came to an abrupt end on 10 January 1966, when he suddenly expired in Tashkent, then in USSR and currently the capital of Uzbekistan. He was there to discuss and sign an agreement with Muhammad Ayub Khan, the then President of Pakistan, to end the war.

During the Prime Ministership of Lal Bahadur Shastri, India faces a war with

1. China
2. Pakistan
3. Bhutan
4. Sri Lanka

Options :

- 485584135105. 1
- 485584135106. 2
- 485584135107. 3
- 485584135108. 4

Question Number : 413 Question Id : 48558433778 Question Type : MCQ Option Shuffling : No Is Question Mandatory : No Calculator : None Response Time : N.A Think Time : N.A Minimum Instruction Time : 0

Correct Marks : 5 Wrong Marks : 1

Question Key Details :

Key	Value
Comprehension	Compl

Read the paragraph given below and answer the following questions.

Shastri was the country's Prime Minister from 1964-1966. During Shastri's brief Prime Ministership, the country faced two major challenges. While India was still recovering from the economic implications of the war with China, failed monsoons, drought and serious food crisis presented a grave challenge. The country also faced a war with Pakistan in 1965. Shastri's famous slogan 'Jai Jawan Jai Kisan', symbolised the country's resolve to face both these challenges.

Shastri's Prime Ministership came to an abrupt end on 10 January 1966, when he suddenly expired in Tashkent, then in USSR and currently the capital of Uzbekistan. He was there to discuss and sign an agreement with Muhammad Ayub Khan, the then President of Pakistan, to end the war.

Lal Bahadur Shastri was India's Prime Minister from:

1. 1965 - 1966
2. 1962 - 1966
3. 1964 - 1966
4. 1962 - 1966

Options :

- 485584135109. 1
- 485584135110. 2
- 485584135111. 3
- 485584135112. 4

Question Number : 414 Question Id : 48558433779 Question Type : MCQ Option Shuffling : No Is Question Mandatory : No Calculator : None Response Time : N.A Think Time : N.A Minimum Instruction Time : 0

Correct Marks : 5 Wrong Marks : 1

Question Key Details :

Key	Value
Comprehension	Comp1

Read the paragraph given below and answer the following questions.

Shastri was the country's Prime Minister from 1964-1966. During Shastri's brief Prime Ministership, the country faced two major challenges. While India was still recovering from the economic implications of the war with China, failed monsoons, drought and serious food crisis presented a grave challenge. The country also faced a war with Pakistan in 1965. Shastri's famous slogan 'Jai Jawan Jai Kisan', symbolised the country's resolve to face both these challenges.

Shastri's Prime Ministership came to an abrupt end on 10 January 1966, when he suddenly expired in Tashkent, then in USSR and currently the capital of Uzbekistan. He was there to discuss and sign an agreement with Muhammad Ayub Khan, the then President of Pakistan, to end the war.

Tashkent is the capital of which country now?

1. USSR
2. Uzbekistan
3. China
4. Pakistan

Options :

485584135113. 1
485584135114. 2
485584135115. 3
485584135116. 4

Question Number : 415 Question Id : 48558433780 Question Type : MCQ Option Shuffling : No Is Question Mandatory : No Calculator : None Response Time : N.A Think Time : N.A Minimum Instruction Time : 0

Correct Marks : 5 Wrong Marks : 1

Question Key Details :

Key	Value
Comprehension	Compl

Read the paragraph given below and answer the following questions.

Shastri was the country's Prime Minister from 1964-1966. During Shastri's brief Prime Ministership, the country faced two major challenges. While India was still recovering from the economic implications of the war with China, failed monsoons, drought and serious food crisis presented a grave challenge. The country also faced a war with Pakistan in 1965. Shastri's famous slogan 'Jai Jawan Jai Kisan', symbolised the country's resolve to face both these challenges.

Shastri's Prime Ministership came to an abrupt end on 10 January 1966, when he suddenly expired in Tashkent, then in USSR and currently the capital of Uzbekistan. He was there to discuss and sign an agreement with Muhammad Ayub Khan, the then President of Pakistan, to end the war.

Name the leader who had resigned from the position of Railway Minister accepting moral responsibility for a major railway accident.

1. K. Kamraj
2. Morarji Desai
3. Jawahar Lal Nehru
4. Lal Bahadur Shastri

Options :

485584135117. 1
485584135118. 2
485584135119. 3
485584135120. 4

Sub-Section Number :

3

Sub-Section Id :

4855842444

Question Shuffling Allowed :

No

Is Section Default? :

null

Question Number : 416 Question Id : 48558433781 Question Type : MCQ Option Shuffling : No Is Question Mandatory : No Calculator : None Response Time : N.A Think Time : N.A Minimum Instruction Time : 0

Correct Marks : 5 Wrong Marks : 1

Question Key Details :

Key	Value
Comprehension	Comp2

The Indian Government is already participating in global efforts through a number of programmes. For example, India's National Auto-fuel Policy mandates cleaner fuels for vehicles. The energy Conservation Act, passed in 2001, outlines initiative to improve energy efficiency. Similarly, the Electricity Act of 2003 encourages the use of renewable energy. Recent trends in importing natural gas and encouraging the adoption of clean coal technologies show that India has been making real efforts. the Government is also keen to launch a National Mission on Biodiesel, using about 11 million hectares of land to produce biodiesel by 2011-2012. India ratified the Paris Climate Agreement on 2 October 2016. And India has one of the largest renewable energy programmes in the world.

A review of the implementation of the agreements at the Earth Summit in Rio was undertaken by India in 1997.

India feels this contravenes very spirit of UNFCCC. Neither does it seem fair to impose restrictions on India when the country's rise in per capita carbon emissions by 2030 is likely to still represent less than half the world average of 3.8 tonnes in 2000. Indian emissions are predicted to rise from 0.9 tonnes per capita in 2000 to 1.6 tonnes per capita in 2030

Reservation Act was passed in

1. 2000
2. 2001
3. 2002
4. 2003

Options :

- 485584135121. 1
- 485584135122. 2
- 485584135123. 3
- 485584135124. 4

Question Number : 417 Question Id : 48558433782 Question Type : MCQ Option Shuffling : No Is Question Mandatory : No Calculator : None Response Time : N.A Think Time : N.A Minimum Instruction Time : 0

Correct Marks : 5 Wrong Marks : 1

Question Key Details :

Key	Value
Comprehension	Comp2

The Indian Government is already participating in global efforts through a number of programmes. For example, India's National Auto-fuel Policy mandates cleaner fuels for vehicles. The energy Conservation Act, passed in 2001, outlines initiative to improve energy efficiency. Similarly, the Electricity Act of 2003 encourages the use of renewable energy. Recent trends in importing natural gas and encouraging the adoption of clean coal technologies show that India has been making real efforts. the Government is also keen to launch a National Mission on Biodiesel, using about 11 million hectares of land to produce biodiesel by 2011-2012. India ratified the Paris Climate Agreement on 2 October 2016. And India has one of the largest renewable energy programmes in the world.

A review of the implementation of the agreements at the Earth Summit in Rio was undertaken by India in 1997.

India feels this contravenes very spirit of UNFCCC. Neither does it seem fair to impose restrictions on India when the country's rise in per capita carbon emissions by 2030 is likely to still represent less than half the world average of 3.8 tonnes in 2000. Indian emissions are predicted to rise from 0.9 tonnes per capita in 2000 to 1.6 tonnes per capita in 2030

Electricity Act of 2003 encourages the uses of

1. Renewable energy
2. Non renewable energy
3. No use of col technology
4. Not importing the natural gas

Options :

- 485584135125. 1
- 485584135126. 2
- 485584135127. 3
- 485584135128. 4

Question Number : 418 Question Id : 48558433783 Question Type : MCQ Option Shuffling : No Is Question Mandatory : No Calculator : None Response Time : N.A Think Time : N.A Minimum Instruction Time : 0

Correct Marks : 5 Wrong Marks : 1

Question Key Details :

Key	Value
Comprehension	Comp2

The Indian Government is already participating in global efforts through a number of programmes. For example, India's National Auto-fuel Policy mandates cleaner fuels for vehicles. The energy Conservation Act, passed in 2001, outlines initiative to improve energy efficiency. Similarly, the Electricity Act of 2003 encourages the use of renewable energy. Recent trends in importing natural gas and encouraging the adoption of clean coal technologies show that India has been making real efforts. the Government is also keen to launch a National Mission on Biodiesel, using about 11 million hectares of land to produce biodiesel by 2011-2012. India ratified the Paris Climate Agreement on 2 October 2016. And India has one of the largest renewable energy programmes in the world.

A review of the implementation of the agreements at the Earth Summit in Rio was undertaken by India in 1997.

India feels this contravenes very spirit of UNFCCC. Neither does it seem fair to impose restrictions on India when the country's rise in per capita carbon emissions by 2030 is likely to still represent less than half the world average of 3.8 tonnes in 2000. Indian emissions are predicted to rise from 0.9 tonnes per capita in 2000 to 1.6 tonnes per capita in 2030

In which year India ratified the Paris Climate Agreement?

1. 2014
2. 2015
3. 2016
4. 2017

Options :

- 485584135129. 1
- 485584135130. 2
- 485584135131. 3
- 485584135132. 4

Question Number : 419 Question Id : 48558433784 Question Type : MCQ Option Shuffling : No Is Question Mandatory : No Calculator : None Response Time : N.A Think Time : N.A Minimum Instruction Time : 0

Correct Marks : 5 Wrong Marks : 1

Question Key Details :

Key	Value
Comprehension	Comp2

The Indian Government is already participating in global efforts through a number of programmes. For example, India's National Auto-fuel Policy mandates cleaner fuels for vehicles. The energy Conservation Act, passed in 2001, outlines initiative to improve energy efficiency. Similarly, the Electricity Act of 2003 encourages the use of renewable energy. Recent trends in importing natural gas and encouraging the adoption of clean coal technologies show that India has been making real efforts. the Government is also keen to launch a National Mission on Biodiesel, using about 11 million hectares of land to produce biodiesel by 2011-2012. India ratified the Paris Climate Agreement on 2 October 2016. And India has one of the largest renewable energy programmes in the world.

A review of the implementation of the agreements at the Earth Summit in Rio was undertaken by India in 1997.

India feels this contravenes very spirit of UNFCCC. Neither does it seem fair to impose restrictions on India when the country's rise in per capita carbon emissions by 2030 is likely to still represent less than half the world average of 3.8 tonnes in 2000. Indian emissions are predicted to rise from 0.9 tonnes per capita in 2000 to 1.6 tonnes per capita in 2030

India emission are predicted to rise 1.6 tonnes per capital in _____

1. 2025
2. 2030
3. 2035
4. 2040

Options :

- 485584135133. 1
- 485584135134. 2
- 485584135135. 3
- 485584135136. 4

Question Number : 420 Question Id : 48558433785 Question Type : MCQ Option Shuffling : No Is Question Mandatory : No Calculator : None Response Time : N.A Think Time : N.A Minimum Instruction Time : 0

Correct Marks : 5 Wrong Marks : 1

Question Key Details :

Key	Value
Comprehension	Comp2

The Indian Government is already participating in global efforts through a number of programmes. For example, India's National Auto-fuel Policy mandates cleaner fuels for vehicles. The energy Conservation Act, passed in 2001, outlines initiative to improve energy efficiency. Similarly, the Electricity Act of 2003 encourages the use of renewable energy. Recent trends in importing natural gas and encouraging the adoption of clean coal technologies show that India has been making real efforts. the Government is also keen to launch a National Mission on Biodiesel, using about 11 million hectares of land to produce biodiesel by 2011-2012. India ratified the Paris Climate Agreement on 2 October 2016. And India has one of the largest renewable energy programmes in the world.

A review of the implementation of the agreements at the Earth Summit in Rio was undertaken by India in 1997.

India feels this contravenes very spirit of UNFCCC. Neither does it seem fair to impose restrictions on India when the country's rise in per capita carbon emissions by 2030 is likely to still represent less than half the world average of 3.8 tonnes in 2000. Indian emissions are predicted to rise from 0.9 tonnes per capita in 2000 to 1.6 tonnes per capita in 2030

Write the full form of UNFCCC

1. United Nations Framework Convention on Climate Change
2. Union Nations Framework Connection on Climate Change
3. United National Framework Connection on Climate Change
4. United Nations Forum Convention on Climate Change

Options :

- 485584135137. 1
- 485584135138. 2
- 485584135139. 3
- 485584135140. 4

Sociology

Group Number :	12
Group Id :	485584750
Group Maximum Duration :	45
Group Minimum Duration :	45
Show Attended Group? :	No
Edit Attended Group? :	No
Break time :	0
Group Marks :	200
Is this Group for Examiner? :	No
Examiner permission :	Cant View
Show Progress Bar? :	No

Sociology

Section Id :	485584868
Section Number :	1
Section type :	Online

Mandatory or Optional :	Mandatory
Number of Questions :	50
Number of Questions to be attempted :	40
Section Marks :	200
Enable Mark as Answered Mark for Review and Clear Response :	Yes
Maximum Instruction Time :	0
Sub-Section Number :	1
Sub-Section Id :	4855842445
Question Shuffling Allowed :	Yes
Is Section Default? :	null

Question Number : 421 Question Id : 48558433786 Question Type : MCQ Option Shuffling : No Is Question Mandatory : No Calculator : None Response Time : N.A Think Time : N.A Minimum Instruction Time : 0

Correct Marks : 5 Wrong Marks : 1

Question Key Details :

Key	Value
Comprehension	MCQ

What is the basis of creation of the new states of Chattisgarh, Uttarakhand and Jharkhand?

1. Ethnicity
2. Administrative
3. Linguistic
4. Special Status

Options :

485584135141. 1
 485584135142. 2
 485584135143. 3
 485584135144. 4

Question Number : 422 Question Id : 48558433787 Question Type : MCQ Option Shuffling : No Is Question Mandatory : No Calculator : None Response Time : N.A Think Time : N.A Minimum Instruction Time : 0

Correct Marks : 5 Wrong Marks : 1

Question Key Details :

Key	Value
Comprehension	MCQ

Policies which are aimed at persuading, encouraging or forcing all citizens to adopt a uniform set of cultural values and norms is called

1. Pluralist
2. Nationalist
3. Assimilationist
4. Multiculturalist

Options :

485584135145. 1
 485584135146. 2

485584135147. 3

485584135148. 4

Question Number : 423 Question Id : 48558433788 Question Type : MCQ Option Shuffling : No Is Question Mandatory : No Calculator : None Response Time : N.A Think Time : N.A Minimum Instruction Time : 0

Correct Marks : 5 Wrong Marks : 1

Question Key Details :

Key	Value
Comprehension	MCQ

According to western context, what does secularism actually denote?

1. Religious Chauvinism
2. Separation of religious and political authority
3. All religions are same and must
4. Keeping away the hostility between religions

Options :

485584135149. 1

485584135150. 2

485584135151. 3

485584135152. 4

Question Number : 424 Question Id : 48558433789 Question Type : MCQ Option Shuffling : No Is Question Mandatory : No Calculator : None Response Time : N.A Think Time : N.A Minimum Instruction Time : 0

Correct Marks : 5 Wrong Marks : 1

Question Key Details :

Key	Value
Comprehension	MCQ

Who argued that the nature of urban impact varies according to the kind relation a village has with a city or town?

1. M.S.A. Rao
2. Emile Durkheim
3. M.N. Srinivas
4. Louis Wirth

Options :

485584135153. 1

485584135154. 2

485584135155. 3

485584135156. 4

Question Number : 425 Question Id : 48558433790 Question Type : MCQ Option Shuffling : No Is Question Mandatory : No Calculator : None Response Time : N.A Think Time : N.A Minimum Instruction Time : 0

Correct Marks : 5 Wrong Marks : 1

Question Key Details :

Key	Value
-----	-------

Comprehension	MCQ
---------------	-----

The different ways in which British colonialism lives on in contemporary India:

- A. Learning Indian classical music and dance
- B. Eating using fork and spoon
- C. Wearing skirts and trousers
- D. Online education
- E. Driving on the left side of the road

Choose the correct answer from the options given below:

- 1. B, D, E only
- 2. B, C, E only
- 3. A, B, D only
- 4. A, C, D only

Options :

- 485584135157. 1
- 485584135158. 2
- 485584135159. 3
- 485584135160. 4

Question Number : 426 Question Id : 48558433791 Question Type : MCQ Option Shuffling : No Is Question Mandatory : No Calculator : None Response Time : N.A Think Time : N.A Minimum Instruction Time : 0

Correct Marks : 5 Wrong Marks : 1

Question Key Details :

Key	Value
Comprehension	MCQ

High rates of infant mortality and maternal mortality are the result of which factors?

- 1. Poverty and development
- 2. Poverty and illiteracy
- 3. Life expectancy and poverty
- 4. Literacy and development

Options :

- 485584135161. 1
- 485584135162. 2
- 485584135163. 3
- 485584135164. 4

Question Number : 427 Question Id : 48558433792 Question Type : MCQ Option Shuffling : No Is Question Mandatory : No Calculator : None Response Time : N.A Think Time : N.A Minimum Instruction Time : 0

Correct Marks : 5 Wrong Marks : 1

Question Key Details :

Key	Value
Comprehension	MCQ

The NGO, Mahila Samakhya, adopted an innovative method to communicate about the Panchayat Raj system to the women in villages.

1. Documentary
2. Speech
3. Phad
4. Focus group discussion

Options :

- 485584135165. 1
- 485584135166. 2
- 485584135167. 3
- 485584135168. 4

Question Number : 428 Question Id : 48558433793 Question Type : MCQ Option Shuffling : No Is Question Mandatory : No Calculator : None Response Time : N.A Think Time : N.A Minimum Instruction Time : 0

Correct Marks : 5 Wrong Marks : 1

Question Key Details :

Key	Value
Comprehension	MCQ

India has which kind of democracy?

1. Direct democracy
2. Representative democracy
3. Indirect democracy
4. Non-representative democracy

Options :

- 485584135169. 1
- 485584135170. 2
- 485584135171. 3
- 485584135172. 4

Question Number : 429 Question Id : 48558433794 Question Type : MCQ Option Shuffling : No Is Question Mandatory : No Calculator : None Response Time : N.A Think Time : N.A Minimum Instruction Time : 0

Correct Marks : 5 Wrong Marks : 1

Question Key Details :

Key	Value
Comprehension	MCQ

Opinions that are not fact based can be understood as

1. Prejudice
2. Untouchability
3. Inclusion
4. Exclusion

Options :

485584135173. 1
485584135174. 2
485584135175. 3
485584135176. 4

Question Number : 430 Question Id : 48558433795 Question Type : MCQ Option Shuffling : No Is Question Mandatory : No Calculator : None Response Time : N.A Think Time : N.A Minimum Instruction Time : 0

Correct Marks : 5 Wrong Marks : 1

Question Key Details :

Key	Value
Comprehension	MCQ

Match the newspapers in List I with the language in List II

LIST I		LIST II	
A.	Kesari	I.	Malayali
B.	Mathrubhumi	II.	Hindi
C.	Sambad-Kaumudi	III.	Bengali
D.	Amar Ujala	IV.	Marathi

Choose the correct answer from the options given below:

1. A-I, B-II, C-III, D-IV
2. A-IV, B-I, C-III, D-II
3. A-IV, B-II, C-I, D-III
4. A-IV, B-II, C-III, D-I

Options :

485584135177. 1
485584135178. 2
485584135179. 3
485584135180. 4

Question Number : 431 Question Id : 48558433796 Question Type : MCQ Option Shuffling : No Is Question Mandatory : No Calculator : None Response Time : N.A Think Time : N.A Minimum Instruction Time : 0

Correct Marks : 5 Wrong Marks : 1

Question Key Details :

Key	Value
Comprehension	MCQ

Why is Demographic Dividend considered temporary?

1. Larger pool of working age people will gradually turn into non-working old age group
2. Larger pool of non-working people will eventually turn into working people
3. Eventually the number of non-working people will be equal to that of working people
4. Larger pool of non-working people will be employed due to Government policies

Options :

- 485584135181. 1
- 485584135182. 2
- 485584135183. 3
- 485584135184. 4

Question Number : 432 Question Id : 48558433797 Question Type : MCQ Option Shuffling : No Is Question Mandatory : No Calculator : None Response Time : N.A Think Time : N.A Minimum Instruction Time : 0

Correct Marks : 5 Wrong Marks : 1

Question Key Details :

Key	Value
Comprehension	MCQ

Identify the three villages that were initially brought together to establish the trading post on river Hooghly by the English in 17th century.

1. Kolikata, Maidan, Fort William
2. Sutanuti, Gobindapur, Fort William
3. Sutanuti, Kolikata, Fort William
4. Kolikata, Sutanuti, Gobindapur

Options :

- 485584135185. 1
- 485584135186. 2
- 485584135187. 3
- 485584135188. 4

Question Number : 433 Question Id : 48558433798 Question Type : MCQ Option Shuffling : No Is Question Mandatory : No Calculator : None Response Time : N.A Think Time : N.A Minimum Instruction Time : 0

Correct Marks : 5 Wrong Marks : 1

Question Key Details :

Key	Value
Comprehension	MCQ

Who believed that famines are the result of "failure of entitlements"?

1. Karl Marx
2. Amartya Sen
3. Malthus
4. Emile Durkheim

Options :

- 485584135189. 1
- 485584135190. 2
- 485584135191. 3
- 485584135192. 4

Question Number : 434 Question Id : 48558433799 Question Type : MCQ Option Shuffling : No Is Question Mandatory : No Calculator : None Response Time : N.A Think Time : N.A Minimum Instruction Time : 0

Correct Marks : 5 Wrong Marks : 1

Question Key Details :

Key	Value
Comprehension	MCQ

When did Right to Information Act came into force?

1. October 13, 2005
2. October 13, 2006
3. June 15, 2005
4. June 15, 2006

Options :

- 485584135193. 1
- 485584135194. 2
- 485584135195. 3
- 485584135196. 4

Question Number : 435 Question Id : 48558433800 Question Type : MCQ Option Shuffling : No Is Question Mandatory : No Calculator : None Response Time : N.A Think Time : N.A Minimum Instruction Time : 0

Correct Marks : 5 Wrong Marks : 1

Question Key Details :

Key	Value
Comprehension	MCQ

Identify the key characteristic of social stratification from the list given below:

- A. It is social and not individual in character
- B. Social stratification persists through ideologies and practices
- C. It persists over generations
- D. It is natural
- E. It is not natural

Choose the correct answer from the options given below:

- 1. A, B, C only
- 2. B, C, E only
- 3. D, C, E only
- 4. A, D, E only

Options :

- 485584135197. 1
- 485584135198. 2
- 485584135199. 3
- 485584135200. 4

Question Number : 436 Question Id : 48558433801 Question Type : MCQ Option Shuffling : No Is Question Mandatory : No Calculator : None Response Time : N.A Think Time : N.A Minimum Instruction Time : 0

Correct Marks : 5 Wrong Marks : 1

Question Key Details :

Key	Value
Comprehension	MCQ

What does population pyramid show?

- 1. Age, Birth rate, Growth
- 2. Age, Gender, Growth
- 3. Age, Birth rate, Life expectancy
- 4. Birth rate, Gender, Life expectancy

Options :

- 485584135201. 1
- 485584135202. 2
- 485584135203. 3
- 485584135204. 4

Question Number : 437 Question Id : 48558433802 Question Type : MCQ Option Shuffling : No Is Question Mandatory : No Calculator : None Response Time : N.A Think Time : N.A Minimum Instruction Time : 0

Correct Marks : 5 Wrong Marks : 1

Question Key Details :

Key	Value
Comprehension	MCQ

Match the books in List I with the authors in List II

LIST I		LIST II	
A.	Stree Purush Tulana	I.	Daya Pawar
B.	The city	II.	Begum Rokeya
C.	Analogy of Religion	III.	Tarabai Shinde
D.	Sultana's Dream	IV.	Bishop Joseph Butler

Choose the correct answer from the options given below:

1. A-I, B-II, C-III, D-IV
2. A-IV, B-I, C-III, D-II
3. A-III, B-I, C-IV, D-II
4. A-IV, B-II, C-III, D-I

Options :

485584135205. 1
485584135206. 2
485584135207. 3
485584135208. 4

Question Number : 438 Question Id : 48558433803 Question Type : MCQ Option Shuffling : No Is Question Mandatory : No Calculator : None Response Time : N.A Think Time : N.A Minimum Instruction Time : 0

Correct Marks : 5 Wrong Marks : 1

Question Key Details :

Key	Value
Comprehension	MCQ

The working age group considered for measuring dependency ratio is:

1. 15-64 years
2. 16-64 years
3. 18-70 years
4. 20-50 years

Options :

485584135209. 1
485584135210. 2
485584135211. 3
485584135212. 4

Question Number : 439 Question Id : 48558433804 Question Type : MCQ Option Shuffling : No Is Question Mandatory : No Calculator : None Response Time : N.A Think Time : N.A Minimum Instruction Time : 0

Correct Marks : 5 Wrong Marks : 1

Question Key Details :

Key	Value
Comprehension	MCQ

In Madhopur village, 77 out of 298 households work and live in the cities of Bombay and Calcutta. What does the example reflect?

1. Industrialisation
2. Urbanisation
3. Migration
4. Ghettoization

Options :

- 485584135213. 1
- 485584135214. 2
- 485584135215. 3
- 485584135216. 4

Question Number : 440 Question Id : 48558433805 Question Type : MCQ Option Shuffling : No Is Question Mandatory : No Calculator : None Response Time : N.A Think Time : N.A Minimum Instruction Time : 0

Correct Marks : 5 Wrong Marks : 1

Question Key Details :

Key	Value
Comprehension	MCQ

Common features of caste system include

- A. equalities within the same caste members
- B. social mobility
- C. occupational link
- D. subdivisions
- E. hierarchical arrangements

Choose the correct answer from the options given below:

1. A, B, C, D only
2. A, B, D, E only
3. B, C, D, E only
4. A, C, D, E only

Options :

- 485584135217. 1
- 485584135218. 2
- 485584135219. 3
- 485584135220. 4

Question Number : 441 Question Id : 48558433806 Question Type : MCQ Option Shuffling : No Is Question Mandatory : No Calculator : None Response Time : N.A Think Time : N.A Minimum Instruction Time : 0

Correct Marks : 5 Wrong Marks : 1

Question Key Details :

Key	Value
Comprehension	MCQ

Match the concept in List I with the example in List II

LIST I Concept		LIST II Example	
A.	Weekly market	I.	Use of branded cars
B.	Status symbol	II.	BPO
C.	Commodification	III.	Dhorai
D.	Globalisation	IV.	Sale of kidney to rich patients

Choose the correct answer from the options given below:

1. A-III, B-II, C-I, D-IV
2. A-III, B-IV, C-II, D-I
3. A-III, B-I, C-IV, D-II
4. A-II, B-I, C-III, D-IV

Options :

485584135221. 1
485584135222. 2
485584135223. 3
485584135224. 4

Question Number : 442 Question Id : 48558433807 Question Type : MCQ Option Shuffling : No Is Question Mandatory : No Calculator : None Response Time : N.A Think Time : N.A Minimum Instruction Time : 0

Correct Marks : 5 Wrong Marks : 1

Question Key Details :

Key	Value
Comprehension	MCQ

Arrange the states having lowest to highest child sex-ratio as per 2011 Census:

- A. Himachal Pradesh
- B. Kerala
- C. Bihar
- D. Haryana
- E. Rajasthan

Choose the correct answer from the options given below:

1. D, E, A, C, B
2. C, D, A, B, E
3. B, A, D, E, C
4. C, A, D, E, B

Options :

485584135225. 1
485584135226. 2
485584135227. 3

Question Number : 443 Question Id : 48558433808 Question Type : MCQ Option Shuffling : No Is Question Mandatory : No Calculator : None Response Time : N.A Think Time : N.A Minimum Instruction Time : 0

Correct Marks : 5 Wrong Marks : 1

Question Key Details :

Key	Value
Comprehension	MCQ

Arrange the following groups in an ascending order in terms of their percentage share in the Bidi industry:

- A. Manufacturer
- B. Worker
- C. Contractor
- D. Distributor

Choose the correct answer from the options given below:

- 1. A, C, B, D
- 2. B, C, D, A
- 3. A, B, C, D
- 4. B, D, C, A

Options :

- 485584135229. 1
- 485584135230. 2
- 485584135231. 3
- 485584135232. 4

Question Number : 444 Question Id : 48558433809 Question Type : MCQ Option Shuffling : No Is Question Mandatory : No Calculator : None Response Time : N.A Think Time : N.A Minimum Instruction Time : 0

Correct Marks : 5 Wrong Marks : 1

Question Key Details :

Key	Value
Comprehension	MCQ

For migrant workers Jan Breman has used the term:

- 1. Footloose labour
- 2. Loose labour
- 3. Mobile labour
- 4. Migratory labour

Options :

- 485584135233. 1
- 485584135234. 2
- 485584135235. 3
- 485584135236. 4

Question Number : 445 Question Id : 48558433810 Question Type : MCQ Option Shuffling : No Is Question Mandatory : No Calculator : None Response Time : N.A Think Time : N.A Minimum Instruction Time : 0

Correct Marks : 5 Wrong Marks : 1

Question Key Details :

Key	Value
Comprehension	MCQ

Identify the permanent traits of tribes from the list provided below:

- A. Language
- B. Mode of livelihood
- C. Region
- D. Extent of incorporation into Hindu society
- E. Physical characteristics

Choose the correct answer from the options given below:

- 1. A, C, E, only
- 2. B, D, E, only
- 3. A, B, C, only
- 4. B, C, E, only

Options :

- 485584135237. 1
- 485584135238. 2
- 485584135239. 3
- 485584135240. 4

Question Number : 446 Question Id : 48558433811 Question Type : MCQ Option Shuffling : No Is Question Mandatory : No Calculator : None Response Time : N.A Think Time : N.A Minimum Instruction Time : 0

Correct Marks : 5 Wrong Marks : 1

Question Key Details :

Key	Value
Comprehension	MCQ

Arrange the four-fold division of society into the varna system:

- A. Vaisya
- B. Brahmin
- C. Sudra
- D. Kshatriya

Choose the correct answer from the options given below:

- 1. B, D, A, C
- 2. B, A, C, D
- 3. A, B, C, D
- 4. C, B, D, A

Options :

- 485584135241. 1
- 485584135242. 2
- 485584135243. 3
- 485584135244. 4

Question Number : 447 Question Id : 48558433812 Question Type : MCQ Option Shuffling : No Is Question Mandatory : No Calculator : None Response Time : N.A Think Time : N.A Minimum Instruction Time : 0

Correct Marks : 5 Wrong Marks : 1

Question Key Details :

Key	Value
Comprehension	MCQ

Impact of urbanization on peripheral villages:

- A. People build fashionable houses
- B. Pressure on resources
- C. Conflicts between migrants and villagers
- D. Out migration
- E. Uprooting villagers from their land

Choose the correct answer from the options given below:

- 1. A, C, D, E, only
- 2. A, B, C, D only
- 3. A, B, C, E only
- 4. B, C, D, E only

Options :

- 485584135245. 1
- 485584135246. 2
- 485584135247. 3
- 485584135248. 4

Question Number : 448 Question Id : 48558433813 Question Type : MCQ Option Shuffling : No Is Question Mandatory : No Calculator : None Response Time : N.A Think Time : N.A Minimum Instruction Time : 0

Correct Marks : 5 Wrong Marks : 1

Question Key Details :

Key	Value
Comprehension	MCQ

The situation where people do not enjoy work and see it as something they have to do only for livelihood is described as:

- 1. Exploitation
- 2. Alienation
- 3. Marginalization
- 4. Discrimination

Options :

485584135249. 1
485584135250. 2
485584135251. 3
485584135252. 4

Question Number : 449 Question Id : 48558433814 Question Type : MCQ Option Shuffling : No Is Question Mandatory : No Calculator : None Response Time : N.A Think Time : N.A Minimum Instruction Time : 0

Correct Marks : 5 Wrong Marks : 1

Question Key Details :

Key	Value
Comprehension	MCQ

From the choices given below choose the scheme associated with providing help to the farmers.

1. Beti bachao, Beti padhao
2. Green revolution
3. Pradhan Mantri Fasal Bima Yojana
4. Land Ceiling Act

Options :

485584135253. 1
485584135254. 2
485584135255. 3
485584135256. 4

Question Number : 450 Question Id : 48558433815 Question Type : MCQ Option Shuffling : No Is Question Mandatory : No Calculator : None Response Time : N.A Think Time : N.A Minimum Instruction Time : 0

Correct Marks : 5 Wrong Marks : 1

Question Key Details :

Key	Value
Comprehension	MCQ

Match the concept in List I with the explanation in List II

LIST I Concept		LIST II Explanation	
A.	Preventive checks	I.	Number of females per 1000 males in a given area at a specified time period
B.	Positive checks	II.	Estimated number of years that an average person is expected to survive
C.	Life expectancy	III.	Voluntary action to reduce population (like postponing marriage)
D.	Sex-ratio	IV.	Involuntary events to reduce population (like famine)

Choose the correct answer from the options given below:

1. A-IV, B-III, C-II, D-I
2. A-III, B-IV, C-II, D-I
3. A-IV, B-II, C-III, D-I
4. A-I, B-II, C-III, D-IV

Options :

485584135257. 1
 485584135258. 2
 485584135259. 3
 485584135260. 4

Question Number : 451 Question Id : 48558433816 Question Type : MCQ Option Shuffling : No Is Question Mandatory : No Calculator : None Response Time : N.A Think Time : N.A Minimum Instruction Time : 0

Correct Marks : 5 Wrong Marks : 1

Question Key Details :

Key	Value
Comprehension	MCQ

The work culture where workers work for extended hours beyond the regular time either to complete the project or please the boss is called:

1. Flexi-time
2. Night out
3. Time slavery
4. Work pressure

Options :

485584135261. 1
 485584135262. 2
 485584135263. 3
 485584135264. 4

Question Number : 452 Question Id : 48558433817 Question Type : MCQ Option Shuffling : No Is Question Mandatory : No Calculator : None Response Time : N.A Think Time : N.A Minimum Instruction Time : 0

Correct Marks : 5 Wrong Marks : 1

Question Key Details :

Key	Value
Comprehension	MCQ

Recent developments in Varanasi and its promotion in media made the city an attractive tourist spot. With which theory can this example be associated with?

1. Corporate culture
2. Culture of consumption
3. Globalization of culture
4. Conscious consumption

Options :

- 485584135265. 1
- 485584135266. 2
- 485584135267. 3
- 485584135268. 4

Question Number : 453 Question Id : 48558433818 Question Type : MCQ Option Shuffling : No Is Question Mandatory : No Calculator : None Response Time : N.A Think Time : N.A Minimum Instruction Time : 0

Correct Marks : 5 Wrong Marks : 1

Question Key Details :

Key	Value
Comprehension	MCQ

Arrange in a chronological manner from earliest to latest developments:

- A. SRC mandated redrawing of the map of India on linguistic lines
- B. Many feared that states based on language will hasten further division of India
- C. Indian National Congress was constituted on linguistic lines
- D. India became independent but was partitioned along religious lines
- E. Creation of Andhra Pradesh after the death of Potti Sriramulu

Choose the correct answer from the options given below:

1. C, D, B, E, A
2. A, B, D, C, B
3. A, B, D, C, E
4. D, C, B, A, E

Options :

- 485584135269. 1
- 485584135270. 2
- 485584135271. 3
- 485584135272. 4

Question Number : 454 Question Id : 48558433819 Question Type : MCQ Option Shuffling : No Is Question Mandatory : No Calculator : None Response Time : N.A Think Time : N.A Minimum Instruction Time : 0

Correct Marks : 5 Wrong Marks : 1

Question Key Details :

Key	Value
Comprehension	MCQ

A movement that is aimed in bringing change in the personal consciousness and actions of individual members is called:

1. Reformist social movement
2. Revolutionary social movement
3. Historical social movement
4. Redemptive social movement

Options :

- 485584135273. 1
- 485584135274. 2
- 485584135275. 3
- 485584135276. 4

Question Number : 455 Question Id : 48558433820 Question Type : MCQ Option Shuffling : No Is Question Mandatory : No Calculator : None Response Time : N.A Think Time : N.A Minimum Instruction Time : 0

Correct Marks : 5 Wrong Marks : 1

Question Key Details :

Key	Value
Comprehension	MCQ

Match the laws in List I with the year adopted in List II

LIST I Laws/Acts		LIST II Year of Adoption/Passing	
A.	Caste Disabilities Removal Act	I.	1989
B.	Constitution Amendment (93rd) Act	II.	1950
C.	(Article 17) Abolishing of Untouchability	III.	1850
D.	Prevention of Atrocities Act	IV.	2006

Choose the correct answer from the options given below:

1. A-I, B-II, C-III, D-IV
2. A-IV, B-III, C-II, D-I
3. A-III, B-IV, C-II, D-I
4. A-IV, B-II, C-I, D-III

Options :

- 485584135277. 1

485584135278. 2
485584135279. 3
485584135280. 4

Question Number : 456 Question Id : 48558433821 Question Type : MCQ Option Shuffling : No Is Question Mandatory : No Calculator : None Response Time : N.A Think Time : N.A Minimum Instruction Time : 0

Correct Marks : 5 Wrong Marks : 1

Question Key Details :

Key	Value
Comprehension	MCQ

The floods caused by the unusually heavy monsoon in the Alaknanda valley marked a turning point in the ecological history of the region. What is being referred to here?

1. Budhan movement
2. Chipko movement
3. Swacch Bharat Mission
4. Namami Gange Project

Options :

485584135281. 1
485584135282. 2
485584135283. 3
485584135284. 4

Question Number : 457 Question Id : 48558433822 Question Type : MCQ Option Shuffling : No Is Question Mandatory : No Calculator : None Response Time : N.A Think Time : N.A Minimum Instruction Time : 0

Correct Marks : 5 Wrong Marks : 1

Question Key Details :

Key	Value
Comprehension	MCQ

Who is associated with the anti-caste movement in 19th century?

1. Mahatma Gandhi
2. Jyotiba Phule
3. Raja Rammohan Roy
4. Birsa Munda

Options :

485584135285. 1
485584135286. 2
485584135287. 3
485584135288. 4

Question Number : 458 Question Id : 48558433823 Question Type : MCQ Option Shuffling : No Is Question Mandatory : No Calculator : None Response Time : N.A Think Time : N.A Minimum Instruction Time : 0

Correct Marks : 5 Wrong Marks : 1

Question Key Details :

Key	Value
Comprehension	MCQ

Arrange the following newspapers in order of their year of publication from the earliest to the latest.

- A. The Madras Mail
- B. The Statesman
- C. The Times of India
- D. The Pioneer
- E. The Civil and Military Gazettee

Choose the correct answer from the options given below:

1. C, D, A, B, E
2. B, D, C, A, E
3. A, B, E, D, C
4. A, C, B, E, D

Options :

485584135289. 1
 485584135290. 2
 485584135291. 3
 485584135292. 4

Question Number : 459 Question Id : 48558433824 Question Type : MCQ Option Shuffling : No Is Question Mandatory : No Calculator : None Response Time : N.A Think Time : N.A Minimum Instruction Time : 0

Correct Marks : 5 Wrong Marks : 1

Question Key Details :

Key	Value
Comprehension	MCQ

One of the key issues that bind the tribal movement across India.

1. Over exploitation
2. Language
3. Alienation from forest lands
4. Ethnicity

Options :

485584135293. 1
 485584135294. 2
 485584135295. 3
 485584135296. 4

Question Number : 460 Question Id : 48558433825 Question Type : MCQ Option Shuffling : No Is Question Mandatory : No Calculator : None Response Time : N.A Think Time : N.A Minimum Instruction Time : 0

Correct Marks : 5 Wrong Marks : 1

Question Key Details :

Key	Value

Comprehension	MCQ
---------------	-----

What was the common demand among the jute workers of Kolkata, cotton mill workers of Buckingham and Ahmedabad?

1. Better working conditions
2. 25% increase of wages
3. 50% increase of wages
4. Less working hours

Options :

485584135297. 1
485584135298. 2
485584135299. 3
485584135300. 4

Sub-Section Number :	2
Sub-Section Id :	4855842446
Question Shuffling Allowed :	No
Is Section Default? :	null

Question Number : 461 Question Id : 48558433826 Question Type : MCQ Option Shuffling : No Is Question Mandatory : No Calculator : None Response Time : N.A Think Time : N.A Minimum Instruction Time : 0

Correct Marks : 5 Wrong Marks : 1

Question Key Details :

Key	Value
Comprehension	Comp1

Read the passage and answer the questions:

Regionalism in India is rooted in India's diversity of languages, cultures, tribes and religions. It is also encouraged by the geographical concentration of these identity workers in particular regions and fuelled by a sense of regional deprivation. Indian federalism has been a means of accommodating these regional sentiments.

After independence, initially the Indian state continued with the British-Indian arrangement, dividing India into large provinces, also called 'Presidencies'. These were large multi-ethnic and multilingual provincial states constituting the major political-administrative units of a semi-federal state called the Union of India. Languages coupled with regional and tribal identity and not religion has therefore provided the most powerful instrument for the formation of ethno-rational identity in India.

The three major factors for the formation of ethno-rational identity in India are:

1. Linguistic, tribal and religious identity
2. Linguistic, caste and tribal identity
3. Regional, linguistic and tribal identity
4. Religious, linguistic and caste identity

Options :

- 485584135301. 1
- 485584135302. 2
- 485584135303. 3
- 485584135304. 4

Question Number : 462 Question Id : 48558433827 Question Type : MCQ Option Shuffling : No Is Question Mandatory : No Calculator : None Response Time : N.A Think Time : N.A Minimum Instruction Time : 0

Correct Marks : 5 Wrong Marks : 1

Question Key Details :

Key	Value
Comprehension	Comp1

Read the passage and answer the questions:

Regionalism in India is rooted in India's diversity of languages, cultures, tribes and religions. It is also encouraged by the geographical concentration of these identity workers in particular regions and fuelled by a sense of regional deprivation. Indian federalism has been a means of accommodating these regional sentiments.

After independence, initially the Indian state continued with the British-Indian arrangement, dividing India into large provinces, also called 'Presidencies'. These were large multi-ethnic and multilingual provincial states constituting the major political-administrative units of a semi-federal state called the Union of India. Languages coupled with regional and tribal identity and not religion has therefore provided the most powerful instrument for the formation of ethno-rational identity in India.

Which of the following cultural markers is not responsible for regionalism in India?

- 1. Tribe
- 2. Caste
- 3. Religion
- 4. Language

Options :

- 485584135305. 1
- 485584135306. 2
- 485584135307. 3
- 485584135308. 4

Question Number : 463 Question Id : 48558433828 Question Type : MCQ Option Shuffling : No Is Question Mandatory : No Calculator : None Response Time : N.A Think Time : N.A Minimum Instruction Time : 0

Correct Marks : 5 Wrong Marks : 1

Question Key Details :

Key	Value
Comprehension	Comp1

Read the passage and answer the questions:

Regionalism in India is rooted in India's diversity of languages, cultures, tribes and religions. It is also encouraged by the geographical concentration of these identity workers in particular regions and fuelled by a sense of regional deprivation. Indian federalism has been a means of accommodating these regional sentiments.

After independence, initially the Indian state continued with the British-Indian arrangement, dividing India into large provinces, also called 'Presidencies'. These were large multi-ethnic and multilingual provincial states constituting the major political-administrative units of a semi-federal state called the Union of India. Languages coupled with regional and tribal identity and not religion has therefore provided the most powerful instrument for the formation of ethno-rational identity in India.

During British period, India was divided into large provinces called

1. Principalities
2. State
3. Princely states
4. Presidencies

Options :

- 485584135309. 1
- 485584135310. 2
- 485584135311. 3
- 485584135312. 4

Question Number : 464 Question Id : 48558433829 Question Type : MCQ Option Shuffling : No Is Question Mandatory : No Calculator : None Response Time : N.A Think Time : N.A Minimum Instruction Time : 0

Correct Marks : 5 Wrong Marks : 1

Question Key Details :

Key	Value
Comprehension	Comp1

Read the passage and answer the questions:

Regionalism in India is rooted in India's diversity of languages, cultures, tribes and religions. It is also encouraged by the geographical concentration of these identity workers in particular regions and fuelled by a sense of regional deprivation. Indian federalism has been a means of accommodating these regional sentiments.

After independence, initially the Indian state continued with the British-Indian arrangement, dividing India into large provinces, also called 'Presidencies'. These were large multi-ethnic and multilingual provincial states constituting the major political-administrative units of a semi-federal state called the Union of India. Languages coupled with regional and tribal identity and not religion has therefore provided the most powerful instrument for the formation of ethno-rational identity in India.

The term used for addressing the existence of diversity of languages is

1. Multi-lingual
2. Multicultural
3. Multi-ethnic
4. Mono-lingual

Options :

- 485584135313. 1
- 485584135314. 2
- 485584135315. 3
- 485584135316. 4

Question Number : 465 Question Id : 48558433830 Question Type : MCQ Option Shuffling : No Is Question Mandatory : No Calculator : None Response Time : N.A Think Time : N.A Minimum Instruction Time : 0

Correct Marks : 5 Wrong Marks : 1

Question Key Details :

Key	Value
Comprehension	Compl

Read the passage and answer the questions:

Regionalism in India is rooted in India's diversity of languages, cultures, tribes and religions. It is also encouraged by the geographical concentration of these identity workers in particular regions and fuelled by a sense of regional deprivation. Indian federalism has been a means of accommodating these regional sentiments.

After independence, initially the Indian state continued with the British-Indian arrangement, dividing India into large provinces, also called 'Presidencies'. These were large multi-ethnic and multilingual provincial states constituting the major political-administrative units of a semi-federal state called the Union of India. Languages coupled with regional and tribal identity and not religion has therefore provided the most powerful instrument for the formation of ethno-rational identity in India.

For the growth of regionalism, the prerequisite is

1. Sense of being dominant
2. Sense of deprivation
3. Sense of empowerment
4. Sense of advancement

Options :

- 485584135317. 1
- 485584135318. 2
- 485584135319. 3
- 485584135320. 4

Sub-Section Number :

3

Sub-Section Id :

4855842447

Question Shuffling Allowed :

No

Is Section Default? :

null

Question Number : 466 Question Id : 48558433831 Question Type : MCQ Option Shuffling : No Is Question Mandatory : No Calculator : None Response Time : N.A Think Time : N.A Minimum Instruction Time : 0

Correct Marks : 5 Wrong Marks : 1

Question Key Details :

Key	Value
Comprehension	Comp2

Read the passage and answer the following questions:

These are indicators of the process of globalisation of agriculture, or the incorporation of agriculture into the larger global market - a process that has had direct effects on farmers and rural society. For instance, in some regions such as Punjab and Karnataka, farmers enter into contracts with multinational companies (such as PepsiCo) to grow certain crops (such as tomatoes and potatoes), which the companies then buy from them for processing or export. In such 'contract farming' systems, the company identifies the crops to be grown, provides the seeds and other inputs, as well as the knowhow and often also the working capital. In return, the farmer is assured of a market because the company guarantees that it will purchase the produce at a predetermined fixed price. Contract farming is very common now in the production of specialised items such as cut flowers, fruits such as grapes, figs and pomegranates, cotton and oil seeds. While contract farming appears to provide financial security to farmers, it can also lead to greater insecurity as farmers become dependent on these companies for their livelihoods. Contract farming of export-oriented products such as flowers and gherkins also means that agricultural land is diverted from food grain production. Contract farming has sociological significance in that it disengages many people from the production process and makes their own indigenous knowledge of agriculture irrelevant. In addition, contract farming caters primarily to the production of elite items, and because it usually requires high doses of fertilisers and pesticides, it is often not ecologically sustainable.

Contract farming happens for:

1. Cash crops only
2. Food crops only
3. Oil seeds and cotton
4. Food processing industry

Options :

485584135321. 1

485584135322. 2

485584135323. 3

485584135324. 4

Question Number : 467 Question Id : 48558433832 Question Type : MCQ Option Shuffling : No Is Question Mandatory : No Calculator : None Response Time : N.A Think Time : N.A Minimum Instruction Time : 0

Correct Marks : 5 Wrong Marks : 1

Question Key Details :

Key	Value
Comprehension	Comp2

Read the passage and answer the following questions:

These are indicators of the process of globalisation of agriculture, or the incorporation of agriculture into the larger global market - a process that has had direct effects on farmers and rural society. For instance, in some regions such as Punjab and Karnataka, farmers enter into contracts with multinational companies (such as PepsiCo) to grow certain crops (such as tomatoes and potatoes), which the companies then buy from them for processing or export. In such 'contract farming' systems, the company identifies the crops to be grown, provides the seeds and other inputs, as well as the knowhow and often also the working capital. In return, the farmer is assured of a market because the company guarantees that it will purchase the produce at a predetermined fixed price. Contract farming is very common now in the production of specialised items such as cut flowers, fruits such as grapes, figs and pomegranates, cotton and oil seeds. While contract farming appears to provide financial security to farmers, it can also lead to greater insecurity as farmers become dependent on these companies for their livelihoods. Contract farming of export-oriented products such as flowers and gherkins also means that agricultural land is diverted from food grain production. Contract farming has sociological significance in that it disengages many people from the production process and makes their own indigenous knowledge of agriculture irrelevant. In addition, contract farming caters primarily to the production of elite items, and because it usually requires high doses of fertilisers and pesticides, it is often not ecologically sustainable.

The change in the nature of relationship between landlords and agricultural workers has been described by the sociologist Jan Brewman as:

1. shift from patronage to exploitation
2. shift from ownership to tenancy
3. withdrawal from subsistence farming
4. withdrawal from agriculture

Options :

- 485584135325. 1
- 485584135326. 2
- 485584135327. 3
- 485584135328. 4

Question Number : 468 Question Id : 48558433833 Question Type : MCQ Option Shuffling : No Is Question Mandatory : No Calculator : None Response Time : N.A Think Time : N.A Minimum Instruction Time : 0

Correct Marks : 5 Wrong Marks : 1

Question Key Details :

Key	Value
Comprehension	Comp2

Read the passage and answer the following questions:

These are indicators of the process of globalisation of agriculture, or the incorporation of agriculture into the larger global market - a process that has had direct effects on farmers and rural society. For instance, in some regions such as Punjab and Karnataka, farmers enter into contracts with multinational companies (such as PepsiCo) to grow certain crops (such as tomatoes and potatoes), which the companies then buy from them for processing or export. In such 'contract farming' systems, the company identifies the crops to be grown, provides the seeds and other inputs, as well as the knowhow and often also the working capital. In return, the farmer is assured of a market because the company guarantees that it will purchase the produce at a predetermined fixed price. Contract farming is very common now in the production of specialised items such as cut flowers, fruits such as grapes, figs and pomegranates, cotton and oil seeds. While contract farming appears to provide financial security to farmers, it can also lead to greater insecurity as farmers become dependent on these companies for their livelihoods. Contract farming of export-oriented products such as flowers and gherkins also means that agricultural land is diverted from food grain production. Contract farming has sociological significance in that it disengages many people from the production process and makes their own indigenous knowledge of agriculture irrelevant. In addition, contract farming caters primarily to the production of elite items, and because it usually requires high doses of fertilisers and pesticides, it is often not ecologically sustainable.

Who decides the crop to be grown under contract farming?

1. Farmer
2. Tenants
3. Labourer
4. Company

Options :

485584135329. 1
485584135330. 2
485584135331. 3
485584135332. 4

Question Number : 469 Question Id : 48558433834 Question Type : MCQ Option Shuffling : No Is Question Mandatory : No Calculator : None Response Time : N.A Think Time : N.A Minimum Instruction Time : 0

Correct Marks : 5 Wrong Marks : 1

Question Key Details :

Key	Value
Comprehension	Comp2

Read the passage and answer the following questions:

These are indicators of the process of globalisation of agriculture, or the incorporation of agriculture into the larger global market - a process that has had direct effects on farmers and rural society. For instance, in some regions such as Punjab and Karnataka, farmers enter into contracts with multinational companies (such as PepsiCo) to grow certain crops (such as tomatoes and potatoes), which the companies then buy from them for processing or export. In such 'contract farming' systems, the company identifies the crops to be grown, provides the seeds and other inputs, as well as the knowhow and often also the working capital. In return, the farmer is assured of a market because the company guarantees that it will purchase the produce at a predetermined fixed price. Contract farming is very common now in the production of specialised items such as cut flowers, fruits such as grapes, figs and pomegranates, cotton and oil seeds. While contract farming appears to provide financial security to farmers, it can also lead to greater insecurity as farmers become dependent on these companies for their livelihoods. Contract farming of export-oriented products such as flowers and gherkins also means that agricultural land is diverted from food grain production. Contract farming has sociological significance in that it disengages many people from the production process and makes their own indigenous knowledge of agriculture irrelevant. In addition, contract farming caters primarily to the production of elite items, and because it usually requires high doses of fertilisers and pesticides, it is often not ecologically sustainable.

Out of the following, which is not a demerit of contract farming?

1. Provides financial security to the farmer
2. Indigenous knowledge becomes irrelevant regarding agriculture
3. Ecologically not sustainable
4. Does not produce for the masses

Options :

485584135333. 1

485584135334. 2

485584135335. 3

485584135336. 4

Question Number : 470 Question Id : 48558433835 Question Type : MCQ Option Shuffling : No Is Question Mandatory : No Calculator : None Response Time : N.A Think Time : N.A Minimum Instruction Time : 0

Correct Marks : 5 Wrong Marks : 1

Question Key Details :

Key	Value
Comprehension	Comp2

Read the passage and answer the following questions:

These are indicators of the process of globalisation of agriculture, or the incorporation of agriculture into the larger global market - a process that has had direct effects on farmers and rural society. For instance, in some regions such as Punjab and Karnataka, farmers enter into contracts with multinational companies (such as PepsiCo) to grow certain crops (such as tomatoes and potatoes), which the companies then buy from them for processing or export. In such 'contract farming' systems, the company identifies the crops to be grown, provides the seeds and other inputs, as well as the knowhow and often also the working capital. In return, the farmer is assured of a market because the company guarantees that it will purchase the produce at a predetermined fixed price. Contract farming is very common now in the production of specialised items such as cut flowers, fruits such as grapes, figs and pomegranates, cotton and oil seeds. While contract farming appears to provide financial security to farmers, it can also lead to greater insecurity as farmers become dependent on these companies for their livelihoods. Contract farming of export-oriented products such as flowers and gherkins also means that agricultural land is diverted from food grain production. Contract farming has sociological significance in that it disengages many people from the production process and makes their own indigenous knowledge of agriculture irrelevant. In addition, contract farming caters primarily to the production of elite items, and because it usually requires high doses of fertilisers and pesticides, it is often not ecologically sustainable.

The system described in the passage is possible due to which process?

1. Globalisation
2. Contract farming
3. Trans National Corporation
4. Glocalisation

Options :

- 485584135337. 1
- 485584135338. 2
- 485584135339. 3
- 485584135340. 4

General Test

Group Number :	13
Group Id :	485584751
Group Maximum Duration :	60
Group Minimum Duration :	60
Show Attended Group? :	No
Edit Attended Group? :	No
Break time :	0
Group Marks :	250
Is this Group for Examiner? :	No
Examiner permission :	Cant View
Show Progress Bar? :	No

General Test

Section Id : 485584869
Section Number : 1
Section type : Online
Mandatory or Optional : Mandatory
Number of Questions : 60
Number of Questions to be attempted : 50
Section Marks : 250
Enable Mark as Answered Mark for Review and Clear Response : Yes
Maximum Instruction Time : 0
Sub-Section Number : 1
Sub-Section Id : 4855842448
Question Shuffling Allowed : Yes
Is Section Default? : null

Question Number : 471 Question Id : 48558433886 Question Type : MCQ Option Shuffling : No Is Question Mandatory : No Calculator : None Response Time : N.A Think Time : N.A Minimum Instruction Time : 0

Correct Marks : 5 Wrong Marks : 1

Question Key Details :

Key	Value
Comprehension	MCQ

The C.P. of two shirts taken together is ₹910. If by selling one at a profit of 16% and the other at a loss of 12%, there is no loss or gain in the whole transaction, then the C.P. of the two shirts are respectively:

1. 380, 530
2. 370, 540
3. 390, 520
4. 400, 510

Options :

485584135541. 1
485584135542. 2
485584135543. 3
485584135544. 4

Question Number : 472 Question Id : 48558433887 Question Type : MCQ Option Shuffling : No Is Question Mandatory : No Calculator : None Response Time : N.A Think Time : N.A Minimum Instruction Time : 0

Correct Marks : 5 Wrong Marks : 1

Question Key Details :

Key	Value
Comprehension	MCQ

Heera purchased a bag for ₹4500 and sold it for ₹8,200. What is the profit percentage? (Correct to two places of decimal)

1. 82.22
2. 73.62
3. 45.12
4. 52.42

Options :

485584135545. 1
485584135546. 2
485584135547. 3
485584135548. 4

Question Number : 473 Question Id : 48558433888 Question Type : MCQ Option Shuffling : No Is Question Mandatory : No Calculator : None Response Time : N.A Think Time : N.A Minimum Instruction Time : 0

Correct Marks : 5 Wrong Marks : 1

Question Key Details :

Key	Value
Comprehension	MCQ

What is the value of ${}^{81}P_2 - {}^{81}C_2$?

1. 6480
2. 3240
3. 2775
4. 5040

Options :

485584135549. 1
485584135550. 2
485584135551. 3
485584135552. 4

Question Number : 474 Question Id : 48558433889 Question Type : MCQ Option Shuffling : No Is Question Mandatory : No Calculator : None Response Time : N.A Think Time : N.A Minimum Instruction Time : 0

Correct Marks : 5 Wrong Marks : 1

Question Key Details :

Key	Value
Comprehension	MCQ

If ${}^nC_9 = {}^nC_3$, what is n ?

1. 10

2. 11

3. 12

4. 13

Options :

485584135553. 1

485584135554. 2

485584135555. 3

485584135556. 4

Question Number : 475 Question Id : 48558433890 Question Type : MCQ Option Shuffling : No Is Question Mandatory : No Calculator : None Response Time : N.A Think Time : N.A Minimum Instruction Time : 0

Correct Marks : 5 Wrong Marks : 1

Question Key Details :

Key	Value
Comprehension	MCQ

The Curved Surface Area of a right circular cylinder of base radius r is obtained by multiplying its volume:

1. $2r^2$

2. $\frac{2}{r^2}$

3. $2r$

4. $\frac{2}{r}$

Options :

485584135557. 1

485584135558. 2

485584135559. 3

485584135560. 4

Question Number : 476 Question Id : 48558433891 Question Type : MCQ Option Shuffling : No Is Question Mandatory : No Calculator : None Response Time : N.A Think Time : N.A Minimum Instruction Time : 0

Correct Marks : 5 Wrong Marks : 1

Question Key Details :

Key	Value
Comprehension	MCQ

Match List I with List II

LIST I		LIST II	
A.	Volume of cone	I.	$\frac{1}{3}\pi h(r_1^2 + r_2^2 + r_1r_2)$
B.	Volume of sphere	II.	$\frac{4}{3}\pi r^3$
C.	Volume of Frustum	III.	$\frac{1}{3}\pi r^2 h$
D.	Volume of cylinder	IV.	$\pi r^2 h$

Choose the correct answer from the options given below:

1. A-IV, B-I, C-III, D-II
2. A-III, B-IV, C-II, D-I
3. A-I, B-II, C-III, D-IV
4. A-II, B-IV, C-I, D-III

Options :

485584135561. 1
485584135562. 2
485584135563. 3
485584135564. 4

Question Number : 477 Question Id : 48558433892 Question Type : MCQ Option Shuffling : No Is Question Mandatory : No Calculator : None Response Time : N.A Think Time : N.A Minimum Instruction Time : 0

Correct Marks : 5 Wrong Marks : 1

Question Key Details :

Key	Value
Comprehension	MCQ

A sum of money triples itself in 3 years at simple interest. In how many years will it become 9 times of itself?

1. 9 years
2. 10 years
3. 12 years
4. 8 years

Options :

485584135565. 1
485584135566. 2
485584135567. 3
485584135568. 4

Question Number : 478 Question Id : 48558433893 Question Type : MCQ Option Shuffling : No Is Question Mandatory : No Calculator : None Response Time : N.A Think Time : N.A Minimum Instruction Time : 0

Correct Marks : 5 Wrong Marks : 1

Question Key Details :

Key	Value
Comprehension	MCQ

At what rate of simple interest, a sum of ₹1,800 will become ₹2,700 in 10 years?

1. 10%
2. 6%
3. 6.75%
4. 5%

Options :

485584135569. 1
485584135570. 2
485584135571. 3
485584135572. 4

Question Number : 479 Question Id : 48558433894 Question Type : MCQ Option Shuffling : No Is Question Mandatory : No Calculator : None Response Time : N.A Think Time : N.A Minimum Instruction Time : 0

Correct Marks : 5 Wrong Marks : 1

Question Key Details :

Key	Value
Comprehension	MCQ

Where does the point P (-5, 0) lies?

1. Third quadrant
2. y-axis
3. x-axis
4. Fourth quadrant

Options :

485584135573. 1
485584135574. 2
485584135575. 3
485584135576. 4

Question Number : 480 Question Id : 48558433895 Question Type : MCQ Option Shuffling : No Is Question Mandatory : No Calculator : None Response Time : N.A Think Time : N.A Minimum Instruction Time : 0

Correct Marks : 5 Wrong Marks : 1

Question Key Details :

Key	Value
Comprehension	MCQ

If P, R, T are the areas of parallelogram, a rhombus and a triangle standing on the same base and between the same parallel lines, then which of the following is true?

1. $R < P < T$
2. $P > R > T$
3. $R = P = T$
4. $R = P = 2T$

Options :

- 485584135577. 1
- 485584135578. 2
- 485584135579. 3
- 485584135580. 4

Question Number : 481 Question Id : 48558433896 Question Type : MCQ Option Shuffling : No Is Question Mandatory : No Calculator : None Response Time : N.A Think Time : N.A Minimum Instruction Time : 0

Correct Marks : 5 Wrong Marks : 1

Question Key Details :

Key	Value
Comprehension	MCQ

Given expression:

$$\frac{(0.682)^2 - (0.318)^2}{0.682 - 0.318}$$

1. 2
2. 4
3. 1
4. 5

Options :

- 485584135581. 1
- 485584135582. 2
- 485584135583. 3
- 485584135584. 4

Question Number : 482 Question Id : 48558433897 Question Type : MCQ Option Shuffling : No Is Question Mandatory : No Calculator : None Response Time : N.A Think Time : N.A Minimum Instruction Time : 0

Correct Marks : 5 Wrong Marks : 1

Question Key Details :

Key	Value
Comprehension	MCQ

A man goes uphill with an average speed of 24 km/h and comes down with an average speed of 36 km/h. The distance travelled in both cases being the same. The average speed for the entire journey is:

1. 30 km/h
2. 28.8 km/h
3. 32 km/h
4. 45 km/h

Options :

- 485584135585. 1
- 485584135586. 2
- 485584135587. 3
- 485584135588. 4

Question Number : 483 Question Id : 48558433898 Question Type : MCQ Option Shuffling : No Is Question Mandatory : No Calculator : None Response Time : N.A Think Time : N.A Minimum Instruction Time : 0

Correct Marks : 5 Wrong Marks : 1

Question Key Details :

Key	Value
Comprehension	MCQ

A 300 m long train is moving at a speed of 60 km/h. In what time will it cross a single pole?

1. 25 sec
2. 30 sec
3. 18 sec
4. 12 sec

Options :

- 485584135589. 1
- 485584135590. 2
- 485584135591. 3
- 485584135592. 4

Question Number : 484 Question Id : 48558433899 Question Type : MCQ Option Shuffling : No Is Question Mandatory : No Calculator : None Response Time : N.A Think Time : N.A Minimum Instruction Time : 0

Correct Marks : 5 Wrong Marks : 1

Question Key Details :

Key	Value
Comprehension	MCQ

In a polyhedron, the number of faces is 4 and the number of edges is 6, then the number of vertices of that polyhedron is:

1. 1
2. 2
3. 3
4. 4

Options :

485584135593. 1
485584135594. 2
485584135595. 3
485584135596. 4

Question Number : 485 Question Id : 48558433900 Question Type : MCQ Option Shuffling : No Is Question Mandatory : No Calculator : None Response Time : N.A Think Time : N.A Minimum Instruction Time : 0

Correct Marks : 5 Wrong Marks : 1

Question Key Details :

Key	Value
Comprehension	MCQ

The number $0.4\overline{23}$ converted to a fraction, then it is equal to:

1. $\frac{1147}{300}$
2. $\frac{419}{900}$
3. $\frac{419}{990}$
4. $\frac{423}{100}$

Options :

485584135597. 1
485584135598. 2
485584135599. 3
485584135600. 4

Question Number : 486 Question Id : 48558433901 Question Type : MCQ Option Shuffling : No Is Question Mandatory : No Calculator : None Response Time : N.A Think Time : N.A Minimum Instruction Time : 0

Correct Marks : 5 Wrong Marks : 1

Question Key Details :

Key	Value
Comprehension	MCQ

Which of the following is called 'Trapezium'?

1. All the sides are equal
2. Two opposite parallel sides are equal
3. Two opposite sides are parallel and two opposite sides are non-parallel
4. A pair of adjacent sides are equal

Options :

485584135601. 1
485584135602. 2
485584135603. 3
485584135604. 4

Question Number : 487 Question Id : 48558433902 Question Type : MCQ Option Shuffling : No Is Question Mandatory : No Calculator : None Response Time : N.A Think Time : N.A Minimum Instruction Time : 0

Correct Marks : 5 Wrong Marks : 1

Question Key Details :

Key	Value
Comprehension	MCQ

From a well shuffled pack of 52 cards, three cards are drawn one by one. The probability that the three cards are Jack, Queen and King respectively?

1. $\frac{11}{1105}$
2. $\frac{8}{16575}$
3. $\frac{27}{2197}$
4. $\frac{27}{305}$

Options :

485584135605. 1
485584135606. 2
485584135607. 3
485584135608. 4

Question Number : 488 Question Id : 48558433903 Question Type : MCQ Option Shuffling : No Is Question Mandatory : No Calculator : None Response Time : N.A Think Time : N.A Minimum Instruction Time : 0

Correct Marks : 5 Wrong Marks : 1

Question Key Details :

Key	Value
Comprehension	MCQ

Two unbiased coins are tossed. What is the probability of getting one head and one tail?

1. $\frac{1}{2}$

2. $\frac{1}{3}$

3. $\frac{1}{4}$

4. 1

Options :

485584135609. 1

485584135610. 2

485584135611. 3

485584135612. 4

Question Number : 489 Question Id : 48558433904 Question Type : MCQ Option Shuffling : No Is Question Mandatory : No Calculator : None Response Time : N.A Think Time : N.A Minimum Instruction Time : 0

Correct Marks : 5 Wrong Marks : 1

Question Key Details :

Key	Value
Comprehension	MCQ

If the manufacturer gains 10%, the wholesale dealer gains 15% and the retailer gains 25%, then find the cost of production of a table, if the retail price of which is ₹1265?

1. ₹1000

2. ₹900

3. ₹800

4. ₹700

Options :

485584135613. 1

485584135614. 2

485584135615. 3

485584135616. 4

Question Number : 490 Question Id : 48558433905 Question Type : MCQ Option Shuffling : No Is Question Mandatory : No Calculator : None Response Time : N.A Think Time : N.A Minimum Instruction Time : 0

Correct Marks : 5 Wrong Marks : 1

Question Key Details :

Key	Value
Comprehension	MCQ

In what ratio must a shopkeeper mix peas and soyabean of ₹16 and ₹25 per kg respectively, so as to obtain a mixture of ₹19 per kg?

1. 2 : 1

2. 7 : 5

3. 11 : 7

4. 13 : 8

Options :

485584135617. 1

485584135618. 2

485584135619. 3

485584135620. 4

Question Number : 491 Question Id : 48558433906 Question Type : MCQ Option Shuffling : No Is Question Mandatory : No Calculator : None Response Time : N.A Think Time : N.A Minimum Instruction Time : 0

Correct Marks : 5 Wrong Marks : 1

Question Key Details :

Key	Value
Comprehension	MCQ

Find the missing term.

1, 4, 27, 16, ?, 36, 343

1. 25

2. 87

3. 120

4. 125

Options :

485584135621. 1

485584135622. 2

485584135623. 3

485584135624. 4

Question Number : 492 Question Id : 48558433907 Question Type : MCQ Option Shuffling : No Is Question Mandatory : No Calculator : None Response Time : N.A Think Time : N.A Minimum Instruction Time : 0

Correct Marks : 5 Wrong Marks : 1

Question Key Details :

Key	Value
Comprehension	MCQ

From the given statements, what conclusion can be made?

Statements : Some men are wise
All wise are professors

Conclusion I : Some men are professors.
II : All professors are wise

1. Only I follows
2. Only II follows
3. I and II follows
4. Either I or II follows

Options :

- 485584135625. 1
- 485584135626. 2
- 485584135627. 3
- 485584135628. 4

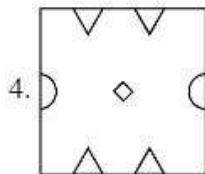
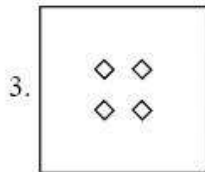
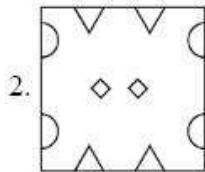
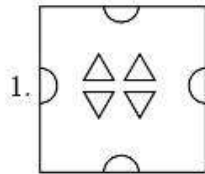
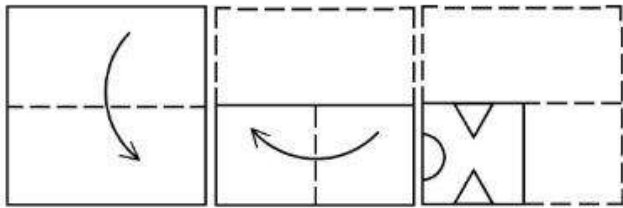
Question Number : 493 Question Id : 48558433908 Question Type : MCQ Option Shuffling : No Is Question Mandatory : No Calculator : None Response Time : N.A Think Time : N.A Minimum Instruction Time : 0

Correct Marks : 5 Wrong Marks : 1

Question Key Details :

Key	Value
Comprehension	MCQ

A piece of paper is folded and a cut is made as shown below. How it will appear when opened?



Options :

- 485584135629. 1
- 485584135630. 2
- 485584135631. 3
- 485584135632. 4

Question Number : 494 Question Id : 48558433909 Question Type : MCQ Option Shuffling : No Is Question Mandatory : No Calculator : None Response Time : N.A Think Time : N.A Minimum Instruction Time : 0

Correct Marks : 5 Wrong Marks : 1

Question Key Details :

Key	Value
Comprehension	MCQ

Manish goes 8 km in the North from his school. Now, turning to the left, he goes 15 km and again turns to the left and goes to 8 km. How far he is from his school and in which direction?

1. 15 km, South from school
2. 8 km, North from school
3. 8 km, West from school
4. 15 km, West from school

Options :

485584135633. 1
485584135634. 2
485584135635. 3
485584135636. 4

Question Number : 495 Question Id : 48558433910 Question Type : MCQ Option Shuffling : No Is Question Mandatory : No Calculator : None Response Time : N.A Think Time : N.A Minimum Instruction Time : 0

Correct Marks : 5 Wrong Marks : 1

Question Key Details :

Key	Value
Comprehension	MCQ

Among P, Q, R, S, T, each having different weight, R is heavier than only P and S is lighter than Q and heavier than T. Who among them is the heaviest?

1. P
2. Q
3. S
4. T

Options :

485584135637. 1
485584135638. 2
485584135639. 3
485584135640. 4

Question Number : 496 Question Id : 48558433911 Question Type : MCQ Option Shuffling : No Is Question Mandatory : No Calculator : None Response Time : N.A Think Time : N.A Minimum Instruction Time : 0

Correct Marks : 5 Wrong Marks : 1

Question Key Details :

Key	Value
Comprehension	MCQ

First two words are related in a certain way in:

Transition : Change :: Immobility : ?

Identify the suitable word in place of ? so that third and fourth words also become relatable the some manner.

1. Stillness
2. Liveliness
3. Action
4. Busyness

Options :

485584135641. 1
485584135642. 2
485584135643. 3
485584135644. 4

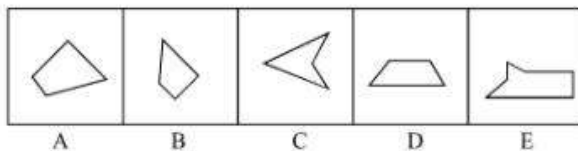
Question Number : 497 Question Id : 48558433912 Question Type : MCQ Option Shuffling : No Is Question Mandatory : No Calculator : None Response Time : N.A Think Time : N.A Minimum Instruction Time : 0

Correct Marks : 5 Wrong Marks : 1

Question Key Details :

Key	Value
Comprehension	MCQ

Which three of the given can be added to get a rectangular figure?



1. A, B, C
2. B, C, E
3. B, D, E
4. A, D, E

Options :

485584135645. 1
485584135646. 2
485584135647. 3
485584135648. 4

Question Number : 498 Question Id : 48558433913 Question Type : MCQ Option Shuffling : No Is Question Mandatory : No Calculator : None Response Time : N.A Think Time : N.A Minimum Instruction Time : 0

Correct Marks : 5 Wrong Marks : 1

Question Key Details :

Key	Value
-----	-------

January 11, 1997 was a Sunday. What day of the week was on January 7, 2000?

1. Sunday
2. Monday
3. Saturday
4. Tuesday

Options :

485584135649. 1
485584135650. 2
485584135651. 3
485584135652. 4


Question Number : 499 Question Id : 48558433914 Question Type : MCQ Option Shuffling : No Is Question Mandatory : No Calculator : None Response Time : N.A Think Time : N.A Minimum Instruction Time : 0

Correct Marks : 5 Wrong Marks : 1

Question Key Details :

Key	Value
Comprehension	MCQ

Choose the correct mirror image of the following:



1 2 3 4

1. 1
2. 2
3. 3
4. 4

Options :

485584135653. 1
485584135654. 2
485584135655. 3
485584135656. 4

Question Number : 500 Question Id : 48558433915 Question Type : MCQ Option Shuffling : No Is Question Mandatory : No Calculator : None Response Time : N.A Think Time : N.A Minimum Instruction Time : 0

Correct Marks : 5 Wrong Marks : 1

Question Key Details :

Key	Value
Comprehension	MCQ

Choose odd one out from the following:

1. Copper
2. Iron
3. Aluminium
4. Bromine

Options :

- 485584135657. 1
- 485584135658. 2
- 485584135659. 3
- 485584135660. 4

Question Number : 501 Question Id : 48558433916 Question Type : MCQ Option Shuffling : No Is Question Mandatory : No Calculator : None Response Time : N.A Think Time : N.A Minimum Instruction Time : 0

Correct Marks : 5 Wrong Marks : 1

Question Key Details :

Key	Value
Comprehension	MCQ

Study the following sequence and then answer the question given below:

9 H 7 Z A 9 2 B C H 3 1 X W V 5 T 4 M 6 0 Q 8 F J.

If every fourth letter/number in the above sequence starting from 7 is eliminated, which of the following will be fifth letter/number to the left of the 12th position from your right?

1. H
2. Z
3. A
4. C

Options :

- 485584135661. 1
- 485584135662. 2
- 485584135663. 3
- 485584135664. 4

Question Number : 502 Question Id : 48558433917 Question Type : MCQ Option Shuffling : No Is Question Mandatory : No Calculator : None Response Time : N.A Think Time : N.A Minimum Instruction Time : 0

Correct Marks : 5 Wrong Marks : 1

Question Key Details :

Key	Value
-----	-------

If you are head of your office, some media people come to your office and request you brief them about the pension plan of your office, you will:

1. Ask the media people to come some other day
2. Immediately accept the offer and brief them
3. Get them turned out of your office
4. Ask them to wait and to consult the official concerned

Options :

485584135665. 1
 485584135666. 2
 485584135667. 3
 485584135668. 4

Question Number : 503 Question Id : 48558433918 Question Type : MCQ Option Shuffling : No Is Question Mandatory : No Calculator : None Response Time : N.A Think Time : N.A Minimum Instruction Time : 0

Correct Marks : 5 Wrong Marks : 1

Question Key Details :

Key	Value
Comprehension	MCQ

In a certain code, COMPUTER is coded as ETUPMOCR. How is INACTIVE written in the same code?

1. VITCANIE
2. VICTNAII
3. VICTANIF
4. VITCANIG

Options :

485584135669. 1
 485584135670. 2
 485584135671. 3
 485584135672. 4

Question Number : 504 Question Id : 48558433919 Question Type : MCQ Option Shuffling : No Is Question Mandatory : No Calculator : None Response Time : N.A Think Time : N.A Minimum Instruction Time : 0

Correct Marks : 5 Wrong Marks : 1

Question Key Details :

Key	Value
Comprehension	MCQ

Select the figure from amongst the four alternatives, which when place in the blank space would complete the pattern?

×		×		×	
	×		×		×
×		×		×	
#		#			
	#				
#		#			

1.

#	#	#
	#	

2.

	#	
#		#
	#	

3.

#		#
#		#

4.

	#	
	#	
	#	

Options :

- 485584135673. 1
- 485584135674. 2
- 485584135675. 3
- 485584135676. 4

Question Number : 505 Question Id : 48558433920 Question Type : MCQ Option Shuffling : No Is Question Mandatory : No Calculator : None Response Time : N.A Think Time : N.A Minimum Instruction Time : 0

Correct Marks : 5 Wrong Marks : 1

Question Key Details :

Key	Value
Comprehension	MCQ

Rajni ranked 9th from the top and 38th from the bottom in a class. How many students are there in the class?

- 1. 46
- 2. 47
- 3. 45
- 4. 44

Options :

- 485584135677. 1
- 485584135678. 2
- 485584135679. 3
- 485584135680. 4

Question Number : 506 Question Id : 48558433921 Question Type : MCQ Option Shuffling : No Is Question Mandatory : No Calculator : None Response Time : N.A Think Time : N.A Minimum Instruction Time : 0

Correct Marks : 5 Wrong Marks : 1

Question Key Details :

Key	Value
Comprehension	MCQ

The following two numbers are connected by some relationship:

82 : 9

Identify the suitable pair to which the same relationship is applicable.

- 1. 5 : 26
- 2. 6 : 37
- 3. 35 : 6
- 4. 26 : 5

Options :

- 485584135681. 1
- 485584135682. 2
- 485584135683. 3
- 485584135684. 4

Question Number : 507 Question Id : 48558433922 Question Type : MCQ Option Shuffling : No Is Question Mandatory : No Calculator : None Response Time : N.A Think Time : N.A Minimum Instruction Time : 0

Correct Marks : 5 Wrong Marks : 1

Question Key Details :

Key	Value
Comprehension	MCQ

P and Q are married couple. A and B are brothers. A is the brother of P. How is B related to Q?

1. Brother-in-law
2. Cousin
3. Son
4. Brother

Options :

- 485584135685. 1
- 485584135686. 2
- 485584135687. 3
- 485584135688. 4

Question Number : 508 Question Id : 48558433923 Question Type : MCQ Option Shuffling : No Is Question Mandatory : No Calculator : None Response Time : N.A Think Time : N.A Minimum Instruction Time : 0

Correct Marks : 5 Wrong Marks : 1

Question Key Details :

Key	Value
Comprehension	MCQ

Below mentioned question consists of a statement followed by two arguments I and II.

Statement : Should 'education' be brought under the control of the Central Government like defence?

Argument I : No. Education is a state subject and it should remain with state.

II : Yes. This is the only way to establish uniformity in a growth of education across the states.

1. Only argument I is strong
2. Only argument II is strong.
3. Either I or II is strong
4. Neither I nor II is strong

Options :

- 485584135689. 1
- 485584135690. 2
- 485584135691. 3
- 485584135692. 4

Question Number : 509 Question Id : 48558433924 Question Type : MCQ Option Shuffling : No Is Question Mandatory : No Calculator : None Response Time : N.A Think Time : N.A Minimum Instruction Time : 0

Correct Marks : 5 Wrong Marks : 1

Question Key Details :

Key	Value
Comprehension	MCQ

Choose the correct option on the basis of the following statements and conclusions.

Statement : Morning walks are good for health.

Conclusion I : All healthy people go for morning walks.

II : Evening walks are harmful.

1. Only conclusion I follow
2. Only conclusion II follow
3. Both I and II follow
4. Neither I nor II follow

Options :

485584135693. 1

485584135694. 2

485584135695. 3

485584135696. 4

Question Number : 510 Question Id : 48558433925 Question Type : MCQ Option Shuffling : No Is Question Mandatory : No Calculator : None Response Time : N.A Think Time : N.A Minimum Instruction Time : 0

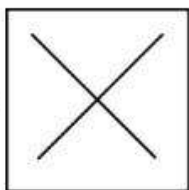
Correct Marks : 5 Wrong Marks : 1

Question Key Details :

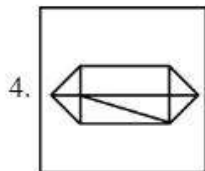
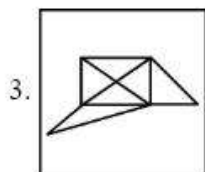
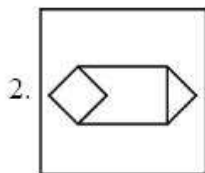
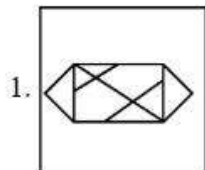
Key	Value
Comprehension	MCQ

In which option problem figure is embedded :

Problem Figure :



Answer Figure:



Options :

- 485584135697. 1
- 485584135698. 2
- 485584135699. 3
- 485584135700. 4

Question Number : 511 Question Id : 48558433926 Question Type : MCQ Option Shuffling : No Is Question Mandatory : No Calculator : None Response Time : N.A Think Time : N.A Minimum Instruction Time : 0

Correct Marks : 5 Wrong Marks : 1

Question Key Details :

Key	Value
Comprehension	MCQ

Which city does not have Jantar Mantar observatories built by Jai Singh II in the early 18th century?

1. Jaipur
2. New Delhi
3. Agra
4. Ujjain

Options :

485584135701. 1
485584135702. 2
485584135703. 3
485584135704. 4

Question Number : 512 Question Id : 48558433927 Question Type : MCQ Option Shuffling : No Is Question Mandatory : No Calculator : None Response Time : N.A Think Time : N.A Minimum Instruction Time : 0

Correct Marks : 5 Wrong Marks : 1

Question Key Details :

Key	Value
Comprehension	MCQ

Who founded the Pala empire?

1. Dharpala
2. Gopala
3. Jayadeva
4. Senpala

Options :

485584135705. 1
485584135706. 2
485584135707. 3
485584135708. 4

Question Number : 513 Question Id : 48558433928 Question Type : MCQ Option Shuffling : No Is Question Mandatory : No Calculator : None Response Time : N.A Think Time : N.A Minimum Instruction Time : 0

Correct Marks : 5 Wrong Marks : 1

Question Key Details :

Key	Value
Comprehension	MCQ

Alai Darwaja was built by:

1. Muhammad - bin - Tughlaq
2. Ala-ud-din Khilji
3. Amir Khusro
4. Iltilthmish

Options :

- 485584135709. 1
- 485584135710. 2
- 485584135711. 3
- 485584135712. 4

Question Number : 514 Question Id : 48558433929 Question Type : MCQ Option Shuffling : No Is Question Mandatory : No Calculator : None Response Time : N.A Think Time : N.A Minimum Instruction Time : 0

Correct Marks : 5 Wrong Marks : 1

Question Key Details :

Key	Value
Comprehension	MCQ

Who found 'Ramakrishna Mission'?

1. Mahatma Gandhi
2. B.R. Ambedkar
3. Swami Vivekananda
4. Swami Dayanand Saraswati

Options :

- 485584135713. 1
- 485584135714. 2
- 485584135715. 3
- 485584135716. 4

Question Number : 515 Question Id : 48558433930 Question Type : MCQ Option Shuffling : No Is Question Mandatory : No Calculator : None Response Time : N.A Think Time : N.A Minimum Instruction Time : 0

Correct Marks : 5 Wrong Marks : 1

Question Key Details :

Key	Value
Comprehension	MCQ

One light year is equals to _____.

1. 9.46×10^{12} km
2. 1.12×10^{10} km
3. 9.00×10^8 km
4. 9.42×10^9 km

Options :

485584135717. 1
485584135718. 2
485584135719. 3
485584135720. 4

Question Number : 516 Question Id : 48558433931 Question Type : MCQ Option Shuffling : No Is Question Mandatory : No Calculator : None Response Time : N.A Think Time : N.A Minimum Instruction Time : 0

Correct Marks : 5 Wrong Marks : 1

Question Key Details :

Key	Value
Comprehension	MCQ

What is scientific name of 'Horse'?

1. Felis catus
2. Capra hercus
3. Eqqus caballus
4. Nija naja

Options :

485584135721. 1
485584135722. 2
485584135723. 3
485584135724. 4

Question Number : 517 Question Id : 48558433932 Question Type : MCQ Option Shuffling : No Is Question Mandatory : No Calculator : None Response Time : N.A Think Time : N.A Minimum Instruction Time : 0

Correct Marks : 5 Wrong Marks : 1

Question Key Details :

Key	Value
Comprehension	MCQ

The change of gaseous state directly to solid state without going through liquid state is called _____.

1. Soildification
2. Sublimation
3. Deposition
4. Evaporation

Options :

485584135725. 1
485584135726. 2
485584135727. 3
485584135728. 4

Question Number : 518 Question Id : 48558433933 Question Type : MCQ Option Shuffling : No Is Question Mandatory : No Calculator : None Response Time : N.A Think Time : N.A Minimum Instruction Time : 0

Correct Marks : 5 Wrong Marks : 1

Question Key Details :

Key	Value
Comprehension	MCQ

Who among the following in Ancient India made some prominent discoveries in Physics?

1. Sushruta
2. Charaka
3. Kanada
4. Nagarjuna

Options :

485584135729. 1
485584135730. 2
485584135731. 3
485584135732. 4

Question Number : 519 Question Id : 48558433934 Question Type : MCQ Option Shuffling : No Is Question Mandatory : No Calculator : None Response Time : N.A Think Time : N.A Minimum Instruction Time : 0

Correct Marks : 5 Wrong Marks : 1

Question Key Details :

Key	Value
Comprehension	MCQ

Honourable Prime Minister of India has led the foundation for manufacturing plant of C-295 Aircraft at _____.

1. Gandhi Nagar
2. Rajkot
3. Surat
4. Vadodara

Options :

485584135733. 1
485584135734. 2
485584135735. 3
485584135736. 4

Question Number : 520 Question Id : 48558433935 Question Type : MCQ Option Shuffling : No Is Question Mandatory : No Calculator : None Response Time : N.A Think Time : N.A Minimum Instruction Time : 0

Correct Marks : 5 Wrong Marks : 1

Question Key Details :

Key	Value
Comprehension	MCQ

In 2022, National conference on e-governance was held in _____.

1. Mumbai
2. Goa
3. New Delhi
4. Kolkata

Options :

485584135737. 1
485584135738. 2
485584135739. 3
485584135740. 4

Question Number : 521 Question Id : 48558433936 Question Type : MCQ Option Shuffling : No Is Question Mandatory : No Calculator : None Response Time : N.A Think Time : N.A Minimum Instruction Time : 0

Correct Marks : 5 Wrong Marks : 1

Question Key Details :

Key	Value
Comprehension	MCQ

Naftali Bennett was sworn in as Israel's new Prime Minister on:

1. June 13, 2021
2. May 10, 2021
3. April 20, 2021
4. February, 2021

Options :

- 485584135741. 1
- 485584135742. 2
- 485584135743. 3
- 485584135744. 4

Question Number : 522 Question Id : 48558433937 Question Type : MCQ Option Shuffling : No Is Question Mandatory : No Calculator : None Response Time : N.A Think Time : N.A Minimum Instruction Time : 0

Correct Marks : 5 Wrong Marks : 1

Question Key Details :

Key	Value
Comprehension	MCQ

Which of the following country become 11th member of ASEAN?

1. Vietnam
2. East Timor
3. Philippines
4. Laos

Options :

- 485584135745. 1
- 485584135746. 2
- 485584135747. 3
- 485584135748. 4

Question Number : 523 Question Id : 48558433938 Question Type : MCQ Option Shuffling : No Is Question Mandatory : No Calculator : None Response Time : N.A Think Time : N.A Minimum Instruction Time : 0

Correct Marks : 5 Wrong Marks : 1

Question Key Details :

Key	Value
Comprehension	MCQ

Which of the following cities is known as the 'Cashew Capital of the World'?

1. Kozhikode
2. Kurnool
3. Kumbakonam
4. Kollam

Options :

485584135749. 1
485584135750. 2
485584135751. 3
485584135752. 4

Question Number : 524 Question Id : 48558433939 Question Type : MCQ Option Shuffling : No Is Question Mandatory : No Calculator : None Response Time : N.A Think Time : N.A Minimum Instruction Time : 0

Correct Marks : 5 Wrong Marks : 1

Question Key Details :

Key	Value
Comprehension	MCQ

Laterite soil is formed due to intense leaching. Red laterite soil in Kerala is more suitable for:

1. Wheat
2. Paddy
3. Cashew nut
4. Cotton

Options :

485584135753. 1
485584135754. 2
485584135755. 3
485584135756. 4

Question Number : 525 Question Id : 48558433940 Question Type : MCQ Option Shuffling : No Is Question Mandatory : No Calculator : None Response Time : N.A Think Time : N.A Minimum Instruction Time : 0

Correct Marks : 5 Wrong Marks : 1

Question Key Details :

Key	Value
Comprehension	MCQ

Smallest planet of solar system is?

1. Venus
2. Mercury
3. Uranus
4. Neptune

Options :

485584135757. 1
485584135758. 2
485584135759. 3
485584135760. 4

Question Number : 526 Question Id : 48558433941 Question Type : MCQ Option Shuffling : No Is Question Mandatory : No Calculator : None Response Time : N.A Think Time : N.A Minimum Instruction Time : 0

Correct Marks : 5 Wrong Marks : 1

Question Key Details :

Key	Value
Comprehension	MCQ

The number of seats for Lok Sabha from Himachal Pradesh is:

1. 4
2. 14
3. 24
4. 5

Options :

485584135761. 1
485584135762. 2
485584135763. 3
485584135764. 4

Question Number : 527 Question Id : 48558433942 Question Type : MCQ Option Shuffling : No Is Question Mandatory : No Calculator : None Response Time : N.A Think Time : N.A Minimum Instruction Time : 0

Correct Marks : 5 Wrong Marks : 1

Question Key Details :

Key	Value
Comprehension	MCQ

Which of the following generates maximum employment in India?

1. Secondary section
2. Primary section
3. Railways
4. Tertiary section

Options :

485584135765. 1
485584135766. 2
485584135767. 3
485584135768. 4

Question Number : 528 Question Id : 48558433943 Question Type : MCQ Option Shuffling : No Is Question Mandatory : No Calculator : None Response Time : N.A Think Time : N.A Minimum Instruction Time : 0

Correct Marks : 5 Wrong Marks : 1

Question Key Details :

Key	Value
Comprehension	MCQ

The book "Mind Master: Winning Lessons from a Champion's Life" is about whom amongst the following?

1. Viswanathan Anand
2. M.S. Dhoni
3. Virat Kohli
4. Sachin Tendulkar

Options :

485584135769. 1
485584135770. 2
485584135771. 3
485584135772. 4

Question Number : 529 Question Id : 48558433944 Question Type : MCQ Option Shuffling : No Is Question Mandatory : No Calculator : None Response Time : N.A Think Time : N.A Minimum Instruction Time : 0

Correct Marks : 5 Wrong Marks : 1

Question Key Details :

Key	Value
Comprehension	MCQ

The place where ISRO organised 'Human Spaceflight Expo'?

1. Ahmedabad
2. Bengaluru
3. Thiruvananthapuram
4. Mumbai

Options :

485584135773. 1
485584135774. 2
485584135775. 3
485584135776. 4

Question Number : 530 Question Id : 48558433945 Question Type : MCQ Option Shuffling : No Is Question Mandatory : No Calculator : None Response Time : N.A Think Time : N.A Minimum Instruction Time : 0

Correct Marks : 5 Wrong Marks : 1

Question Key Details :

Key	Value
Comprehension	MCQ

Who among the following used the term 'Green Revolution' for increasing agricultural production in India?

1. Norman Borlaug
2. M.S. Swaminathan
3. Raj Krishna
4. R.K.V. Rao

Options :

485584135777. 1
485584135778. 2
485584135779. 3
485584135780. 4

Urdu

Group Number :	14
Group Id :	485584752
Group Maximum Duration :	45
Group Minimum Duration :	45
Show Attended Group? :	No
Edit Attended Group? :	No
Break time :	0
Group Marks :	200
Is this Group for Examiner? :	No
Examiner permission :	Cant View
Show Progress Bar? :	No

Urdu

Section Id :	485584870
Section Number :	1
Section type :	Online
Mandatory or Optional :	Mandatory
Number of Questions :	50
Number of Questions to be attempted :	40
Section Marks :	200
Enable Mark as Answered Mark for Review and Clear Response :	Yes
Maximum Instruction Time :	0
Sub-Section Number :	1
Sub-Section Id :	4855842449
Question Shuffling Allowed :	No
Is Section Default? :	null
Sub-Section Number :	2
Sub-Section Id :	4855842450
Question Shuffling Allowed :	Yes
Is Section Default? :	null
Sub-Section Number :	3
Sub-Section Id :	4855842451
Question Shuffling Allowed :	No
Is Section Default? :	null
Sub-Section Number :	4
Sub-Section Id :	4855842452
Question Shuffling Allowed :	No
Is Section Default? :	null
Sub-Section Number :	5
Sub-Section Id :	4855842453
Question Shuffling Allowed :	Yes
Is Section Default? :	null