

National Testing Agency

Question Paper Name : 10S2
Subject Name : 10Jun2023 Shift2 Subject Combination 1
Creation Date : 2023-06-10 19:11:26
Duration : 195
Total Marks : 850
Display Marks: Yes

English

Group Number : 1
Group Id : 485584602
Group Maximum Duration : 45
Group Minimum Duration : 45
Show Attended Group? : No
Edit Attended Group? : No
Break time : 0
Group Marks : 200
Is this Group for Examiner? : No
Examiner permission : Cant View
Show Progress Bar? : No

English

Section Id : 485584690
Section Number : 1
Section type : Online
Mandatory or Optional : Mandatory
Number of Questions : 50
Number of Questions to be attempted : 40
Section Marks : 200
Enable Mark as Answered Mark for Review and Clear Response : Yes
Maximum Instruction Time : 0
Sub-Section Number : 1
Sub-Section Id : 4855841962
Question Shuffling Allowed : No
Is Section Default? : null

**Question Number : 1 Question Id : 48558426401 Question Type : MCQ Option Shuffling : No Is Question Mandatory : No Calculator : None
Response Time : N.A Think Time : N.A Minimum Instruction Time : 0**

Correct Marks : 5 Wrong Marks : 1

Question Key Details :

Key	Value
Comprehension	Comp1

Read the passage and answer the questions given below selecting the appropriate option:

While conservation efforts are associated with conflicts between villagers and Forest Officials in most Protected areas across the country, the Kailadevi Wildlife Sanctuary in Rajasthan has involved local community initiatives for conservation and regeneration. The Sanctuary was initiated in 1983, over 674 sq km forming a part of the 1334 sq km Ranthambore Tiger Reserve. It is located within the Karauli and Sopatra blocks of Sawai Madhopur district.

The primary occupation of the predominant Meena and Gujjar communities is pastoralism and subsistence agriculture.

Pressures on the sanctuary included migrant grazers known as the Rabaris, who came from the Mewar region of Rajasthan with herds of over 150,000 sheep. Other pressures were from exploitation of timber and fuelwood and mining. The threat posed by the migrant grazers spurred the formation of the "Baragaon ki Panchayat" in 1990, which in turn initiated a 'Bhed Bhagao Andolan'.

The Forest Department supported the villagers in the formation of Forest Protection Committees and Van Suraksha Samitis. The benefits of involving local people in protection of their resources were obvious. Illegal felling was checked. The use of forest resources for local use was monitored. The *Forest Protection Committees (FPCs)* were also successful in stopping the mining in the Sanctuary. The people not only protect their forests but also use their resources judiciously.

The problem of conservation and regeneration of Kailadevi Wildlife Sanctuary was solved with the initiative of :

1. Meenas and Gujjars
2. Local Communities
3. Forest Officials
4. State government

Options :

485584105601. 1
485584105602. 2
485584105603. 3
485584105604. 4

Question Number : 2 Question Id : 48558426402 Question Type : MCQ Option Shuffling : No Is Question Mandatory : No Calculator : None Response Time : N.A Think Time : N.A Minimum Instruction Time : 0

Correct Marks : 5 Wrong Marks : 1

Question Key Details :

Key	Value
Comprehension	Comp1

Read the passage and answer the questions given below selecting the appropriate option:

While conservation efforts are associated with conflicts between villagers and Forest Officials in most Protected areas across the country, the Kailadevi Wildlife Sanctuary in Rajasthan has involved local community initiatives for conservation and regeneration. The Sanctuary was initiated in 1983, over 674 sq km forming a part of the 1334 sq km Ranthambore Tiger Reserve. It is located within the Karauli and Sopatra blocks of Sawai Madhopur district.

The primary occupation of the predominant Meena and Gujjar communities is pastoralism and subsistence agriculture.

Pressures on the sanctuary included migrant grazers known as the Rabaris, who came from the Mewar region of Rajasthan with herds of over 150,000 sheep. Other pressures were from exploitation of timber and fuelwood and mining. The threat posed by the migrant grazers spurred the formation of the "Baragaon ki Panchayat" in 1990, which in turn initiated a 'Bhed Bhagao Andolan'.

The Forest Department supported the villagers in the formation of Forest Protection Committees and Van Suraksha Samitis. The benefits of involving local people in protection of their resources were obvious. Illegal felling was checked. The use of forest resources for local use was monitored. The *Forest Protection Committees (FPCs)* were also successful in stopping the mining in the Sanctuary. The people not only protect their forests but also use their resources judiciously.

Rabaris were:

1. local villagers
2. migrant grazers
3. farmers
4. timber merchants

Options :

485584105605. 1
485584105606. 2
485584105607. 3
485584105608. 4

Question Number : 3 Question Id : 48558426403 Question Type : MCQ Option Shuffling : No Is Question Mandatory : No Calculator : None
Response Time : N.A Think Time : N.A Minimum Instruction Time : 0

Correct Marks : 5 Wrong Marks : 1

Question Key Details :

Key	Value
Comprehension	Compl

Read the passage and answer the questions given below selecting the appropriate option:

While conservation efforts are associated with conflicts between villagers and Forest Officials in most Protected areas across the country, the Kailadevi Wildlife Sanctuary in Rajasthan has involved local community initiatives for conservation and regeneration. The Sanctuary was initiated in 1983, over 674 sq km forming a part of the 1334 sq km Ranthambore Tiger Reserve. It is located within the Karauli and Sopatra blocks of Sawai Madhopur district.

The primary occupation of the predominant Meena and Gujjar communities is pastoralism and subsistence agriculture.

Pressures on the sanctuary included migrant grazers known as the Rabaris, who came from the Mewar region of Rajasthan with herds of over 150,000 sheep. Other pressures were from exploitation of timber and fuelwood and mining. The threat posed by the migrant grazers spurred the formation of the "Baragaon ki Panchayat" in 1990, which in turn initiated a 'Bhed Bhagao Andolan'.

The Forest Department supported the villagers in the formation of Forest Protection Committees and Van Suraksha Samitis. The benefits of involving local people in protection of their resources were obvious. Illegal felling was checked. The use of forest resources for local use was monitored. The *Forest Protection Committees (FPCs)* were also successful in stopping the mining in the Sanctuary. The people not only protect their forests but also use their resources judiciously.

The threat set by the migrant grazers helped in the formation of :

1. Bhed bhagao Andolan
2. Baragaon ki Panchayat
3. Van Suraksha Samiti
4. Forest Protection Committee

Options :

485584105609. 1
485584105610. 2
485584105611. 3
485584105612. 4

Question Number : 4 Question Id : 48558426404 Question Type : MCQ Option Shuffling : No Is Question Mandatory : No Calculator : None
Response Time : N.A Think Time : N.A Minimum Instruction Time : 0

Correct Marks : 5 Wrong Marks : 1

Question Key Details :

Key	Value
Comprehension	Compl

Read the passage and answer the questions given below selecting the appropriate option:

While conservation efforts are associated with conflicts between villagers and Forest Officials in most Protected areas across the country, the Kailadevi Wildlife Sanctuary in Rajasthan has involved local community initiatives for conservation and regeneration. The Sanctuary was initiated in 1983, over 674 sq km forming a part of the 1334 sq km Ranthambore Tiger Reserve. It is located within the Karauli and Sopatra blocks of Sawai Madhopur district.

The primary occupation of the predominant Meena and Gujjar communities is pastoralism and subsistence agriculture.

Pressures on the sanctuary included migrant grazers known as the Rabaris, who came from the Mewar region of Rajasthan with herds of over 150,000 sheep. Other pressures were from exploitation of timber and fuelwood and mining. The threat posed by the migrant grazers spurred the formation of the "Baragaon ki Panchayat" in 1990, which in turn initiated a 'Bhed Bhagao Andolan'.

The Forest Department supported the villagers in the formation of Forest Protection Committees and Van Suraksha Samitis. The benefits of involving local people in protection of their resources were obvious. Illegal felling was checked. The use of forest resources for local use was monitored. The *Forest Protection Committees (FPCs)* were also successful in stopping the mining in the Sanctuary. The people not only protect their forests but also use their resources judiciously.

The involvement of local people supported the forest department to stop :

1. illegal felling and mining
2. mining only
3. illegal felling
4. use of resources

Options :

485584105613. 1
485584105614. 2
485584105615. 3
485584105616. 4

Question Number : 5 Question Id : 48558426405 Question Type : MCQ Option Shuffling : No Is Question Mandatory : No Calculator : None Response Time : N.A Think Time : N.A Minimum Instruction Time : 0

Correct Marks : 5 Wrong Marks : 1

Question Key Details :

Key	Value
Comprehension	Compl

Read the passage and answer the questions given below selecting the appropriate option:

While conservation efforts are associated with conflicts between villagers and Forest Officials in most Protected areas across the country, the Kailadevi Wildlife Sanctuary in Rajasthan has involved local community initiatives for conservation and regeneration. The Sanctuary was initiated in 1983, over 674 sq km forming a part of the 1334 sq km Ranthambore Tiger Reserve. It is located within the Karauli and Sopatra blocks of Sawai Madhopur district.

The primary occupation of the predominant Meena and Gujjar communities is pastoralism and subsistence agriculture.

Pressures on the sanctuary included migrant grazers known as the Rabaris, who came from the Mewar region of Rajasthan with herds of over 150,000 sheep. Other pressures were from exploitation of timber and fuelwood and mining. The threat posed by the migrant grazers spurred the formation of the "Baragaon ki Panchayat" in 1990, which in turn initiated a 'Bhed Bhagao Andolan'.

The Forest Department supported the villagers in the formation of Forest Protection Committees and Van Suraksha Samitis. The benefits of involving local people in protection of their resources were obvious. Illegal felling was checked. The use of forest resources for local use was monitored. The *Forest Protection Committees (FPCs)* were also successful in stopping the mining in the Sanctuary. The people not only protect their forests but also use their resources judiciously.

We can save our forests by using our resources

1. recklessly
2. excessively
3. carelessly
4. wisely

Options :

- 485584105617. 1
- 485584105618. 2
- 485584105619. 3
- 485584105620. 4

Sub-Section Number : 2
Sub-Section Id : 4855841963
Question Shuffling Allowed : No
Is Section Default? : null

Question Number : 6 Question Id : 48558426406 Question Type : MCQ Option Shuffling : No Is Question Mandatory : No Calculator : None Response Time : N.A Think Time : N.A Minimum Instruction Time : 0

Correct Marks : 5 Wrong Marks : 1

Question Key Details :

Key	Value
Comprehension	Comp2

Read the following passage carefully and answer the next 5 questions by choosing the correct option :

No one could understand where he got his money from. But the person who marvelled most at the dashing and luxurious life led by Alphonse was his friend and partner.

After they dissolved their partnership, most of the custom and the best connection passed by degrees into Charles's hands. This was not because he in any way sought to run counter to his former partner; on the contrary, it arose simply from the fact that Charles was the more capable man of the two. And as Alphonse had now to work on his own account, it was soon clear to any one who observed him closely, that in spite of his promptitude, his amiability, and his prepossessing appearance, he was not fit to be at the head of an independent business.

And there was one person who did observe him closely. Charles followed him step by step with his sharp eyes; every blunder, every extravagance, every loss - he knew all to a nicety, and he wondered how Alphonse could keep going so long.

They had as good as grown up together. Their mothers were cousins; the families had lived near each other in the same street; and in a city like Paris, proximity is as important as relationship in promoting closeness. Moreover, the boys went to same school.

Who was living a luxurious life ? Choose the correct option:

1. Alphonse
2. Charles
3. Alphonse's friend
4. The partner

Options :

- 485584105621. 1
- 485584105622. 2
- 485584105623. 3
- 485584105624. 4

Question Number : 7 Question Id : 48558426407 Question Type : MCQ Option Shuffling : No Is Question Mandatory : No Calculator : None Response Time : N.A Think Time : N.A Minimum Instruction Time : 0

Correct Marks : 5 Wrong Marks : 1

Question Key Details :

Key	Value
Comprehension	Comp2

Read the following passage carefully and answer the next 5 questions by choosing the correct option :

No one could understand where he got his money from. But the person who marvelled most at the dashing and luxurious life led by Alphonse was his friend and partner.

After they dissolved their partnership, most of the custom and the best connection passed by degrees into Charles's hands. This was not because he in any way sought to run counter to his former partner; on the contrary, it arose simply from the fact that Charles was the more capable man of the two. And as Alphonse had now to work on his own account, it was soon clear to any one who observed him closely, that in spite of his promptitude, his amiability, and his prepossessing appearance, he was not fit to be at the head of an independent business.

And there was one person who did observe him closely. Charles followed him step by step with his sharp eyes; every blunder, every extravagance, every loss - he knew all to a nicety, and he wondered how Alphonse could keep going so long.

They had as good as grown up together. Their mothers were cousins; the families had lived near each other in the same street; and in a city like Paris, proximity is as important as relationship in promoting closeness. Moreover, the boys went to same school.

Arrange the following sentences / portion of sentences as per their order of occurrence in the passage :

- A. he knew all to a nicety, and he wondered how Alphonse could keep going so long.
- B. After they dissolved their partnership, most of the custom and the best connection passed by degrees into Charles's hands.
- C. And there was one person who did observe him closely. Charles followed him step by step...
- D. But the person who marvelled most at the dashing and luxurious life led by Alphonse was his friend...
- E. ...it arose simply from the fact that Charles was the more capable man of the two

Choose the correct answer from the options given below:

1. D-B-C-A-E
2. B-C-A-E-D
3. D-B-E-C-A
4. A-B-E-C-D

Options :

485584105625. 1
 485584105626. 2
 485584105627. 3
 485584105628. 4

Question Number : 8 Question Id : 48558426408 Question Type : MCQ Option Shuffling : No Is Question Mandatory : No Calculator : None Response Time : N.A Think Time : N.A Minimum Instruction Time : 0

Correct Marks : 5 Wrong Marks : 1

Question Key Details :

Key	Value
Comprehension	Comp2

Read the following passage carefully and answer the next 5 questions by choosing the correct option :

No one could understand where he got his money from. But the person who marvelled most at the dashing and luxurious life led by Alphonse was his friend and partner.

After they dissolved their partnership, most of the custom and the best connection passed by degrees into Charles's hands. This was not because he in any way sought to run counter to his former partner; on the contrary, it arose simply from the fact that Charles was the more capable man of the two. And as Alphonse had now to work on his own account, it was soon clear to any one who observed him closely, that in spite of his promptitude, his amiability, and his prepossessing appearance, he was not fit to be at the head of an independent business.

And there was one person who did observe him closely. Charles followed him step by step with his sharp eyes; every blunder, every extravagance, every loss - he knew all to a nicety, and he wondered how Alphonse could keep going so long.

They had as good as grown up together. Their mothers were cousins; the families had lived near each other in the same street; and in a city like Paris, proximity is as important as relationship in promoting closeness. Moreover, the boys went to same school.

Based on your reading of the passage, identify the sentence/sentences which are CORRECT :

- A. Alphonse and Charles had grown up together
- B. Alphonse's and Charles's mothers were friends
- C. Alphonse and Charles never dissolved their partnership
- D. Alphonse was fit for being the head of an independent business
- E. Alphonse and Charles went to the same school

Choose the correct answer from the options given below:

- 1. A, C and E only
- 2. B, C and E only
- 3. A and E only
- 4. C, D and E only

Options :

- 485584105629. 1
- 485584105630. 2
- 485584105631. 3
- 485584105632. 4

Question Number : 9 Question Id : 48558426409 Question Type : MCQ Option Shuffling : No Is Question Mandatory : No Calculator : None Response Time : N.A Think Time : N.A Minimum Instruction Time : 0

Correct Marks : 5 Wrong Marks : 1

Question Key Details :

Key	Value
Comprehension	Comp2

Read the following passage carefully and answer the next 5 questions by choosing the correct option :

No one could understand where he got his money from. But the person who marvelled most at the dashing and luxurious life led by Alphonse was his friend and partner.

After they dissolved their partnership, most of the custom and the best connection passed by degrees into Charles's hands. This was not because he in any way sought to run counter to his former partner; on the contrary, it arose simply from the fact that Charles was the more capable man of the two. And as Alphonse had now to work on his own account, it was soon clear to any one who observed him closely, that in spite of his promptitude, his amiability, and his prepossessing appearance, he was not fit to be at the head of an independent business.

And there was one person who did observe him closely. Charles followed him step by step with his sharp eyes; every blunder, every extravagance, every loss - he knew all to a nicety, and he wondered how Alphonse could keep going so long.

They had as good as grown up together. Their mothers were cousins; the families had lived near each other in the same street; and in a city like Paris, proximity is as important as relationship in promoting closeness. Moreover, the boys went to same school.

Who was more capable between Alphonse and Charles ?

1. Alphonse
2. Charles
3. We cannot decide
4. Sometimes Alphonse, at other times Charles

Options :

485584105633. 1
485584105634. 2
485584105635. 3
485584105636. 4

Question Number : 10 Question Id : 48558426410 Question Type : MCQ Option Shuffling : No Is Question Mandatory : No Calculator : None Response Time : N.A Think Time : N.A Minimum Instruction Time : 0

Correct Marks : 5 Wrong Marks : 1

Question Key Details :

Key	Value
Comprehension	Comp2

Read the following passage carefully and answer the next 5 questions by choosing the correct option :

No one could understand where he got his money from. But the person who marvelled most at the dashing and luxurious life led by Alphonse was his friend and partner.

After they dissolved their partnership, most of the custom and the best connection passed by degrees into Charles's hands. This was not because he in any way sought to run counter to his former partner; on the contrary, it arose simply from the fact that Charles was the more capable man of the two. And as Alphonse had now to work on his own account, it was soon clear to any one who observed him closely, that in spite of his promptitude, his amiability, and his prepossessing appearance, he was not fit to be at the head of an independent business.

And there was one person who did observe him closely. Charles followed him step by step with his sharp eyes; every blunder, every extravagance, every loss - he knew all to a nicety, and he wondered how Alphonse could keep going so long.

They had as good as grown up together. Their mothers were cousins; the families had lived near each other in the same street; and in a city like Paris, proximity is as important as relationship in promoting closeness. Moreover, the boys went to same school.

The passage is about:

1. two friends
2. two friends who turned rivals
3. two enemies
4. two strangers

Options :

485584105637. 1
485584105638. 2
485584105639. 3
485584105640. 4

Sub-Section Number : 3
Sub-Section Id : 4855841964
Question Shuffling Allowed : No
Is Section Default? : null

Question Number : 11 Question Id : 48558426411 Question Type : MCQ Option Shuffling : No Is Question Mandatory : No Calculator : None Response Time : N.A Think Time : N.A Minimum Instruction Time : 0

Correct Marks : 5 Wrong Marks : 1

Question Key Details :

Key	Value
Comprehension	Comp3

In stark contrast to where I grew up-in warm, lush green Trivandrum, Kerala, filled with rich sights, sounds and people-life at the Poles is quiet. The harshness of winter brings along with it an eerie desolation and near-total silence. Survival in this frigid, dark and windy terrain is only for the fittest. A misstep can mean anything from an icy injury to a bitter, benumbed death.

But while it is tenuous, life here is also humbling-physically, mentally, and even spiritually. The experience has allowed me to witness the wondrous dualities of nature: raw, brutal and unforgiving but nurturing and awe-inspiring at the same time.

As the days shorten, almost all life starts to depart seeking warmer lands. But those who stay are surrounded by glacial beauty and an otherworldly stillness that stands unmatched. In peak winter months, the sun seems to live only in memory. Its absence however, is only an illusion: shimmering displays of blue, red, yellow, green, and orange auroras shifting and snaking like billowing curtains across the pitch black sky remind me that the light shall one day return.

Even the emptiness of the land is deceptive. Look closely and out waddles a flock of penguins from behind an ice shelf on the Antarctic peninsula.

The writer indicates that only those who are fit can survive at the poles. For the others it can lead to:-

- A. death
- B. bitterness
- C. icy-injury
- D. loneliness

Choose the correct answer from the options given below:

1. A Only
2. B Only
3. A and C Only
4. B and D Only

Options :

485584105641. 1
485584105642. 2
485584105643. 3
485584105644. 4

Question Number : 12 Question Id : 48558426412 Question Type : MCQ Option Shuffling : No Is Question Mandatory : No Calculator : None Response Time : N.A Think Time : N.A Minimum Instruction Time : 0

Correct Marks : 5 Wrong Marks : 1

Question Key Details :

Key	Value
Comprehension	Comp3

In stark contrast to where I grew up-in warm, lush green Trivandrum, Kerala, filled with rich sights, sounds and people-life at the Poles is quiet. The harshness of winter brings along with it an eerie desolation and near-total silence. Survival in this frigid, dark and windy terrain is only for the fittest. A misstep can mean anything from an icy injury to a bitter, benumbed death.

But while it is tenuous, life here is also humbling-physically, mentally, and even spiritually. The experience has allowed me to witness the wonderous dualities of nature: raw, brutal and unforgiving but nurturing and awe-inspiring at the same time.

As the days shorten, almost all life starts to depart seeking warmer lands. But those who stay are surrounded by glacial beauty and an otherworldly stillness that stands unmatched. In peak winter months, the sun seems to live only in memory. Its absence however, is only an illusion: shimmering displays of blue, red, yellow, green, and orange auroras shifting and snaking like billowing curtains across the pitch black sky remind me that the light shall one day return.

Even the emptiness of the land is deceptive. Look closely and out waddles a flock of penguins from behind an ice shelf on the Antarctic peninsula.

Identify the correct synonyms of the two words given below:

Waddle; eerie

1. Walk with effort; dark
2. Walk with short steps; causing a feeling of mystery
3. hobble around; Scary
4. Trudge; ludicrous

Options :

485584105645. 1

485584105646. 2

485584105647. 3

485584105648. 4

Question Number : 13 Question Id : 48558426413 Question Type : MCQ Option Shuffling : No Is Question Mandatory : No Calculator : None Response Time : N.A Think Time : N.A Minimum Instruction Time : 0

Correct Marks : 5 Wrong Marks : 1

Question Key Details :

Key	Value
Comprehension	Comp3

In stark contrast to where I grew up-in warm, lush green Trivandrum, Kerala, filled with rich sights, sounds and people-life at the Poles is quiet. The harshness of winter brings along with it an eerie desolation and near-total silence. Survival in this frigid, dark and windy terrain is only for the fittest. A misstep can mean anything from an icy injury to a bitter, benumbed death.

But while it is tenuous, life here is also humbling-physically, mentally, and even spiritually. The experience has allowed me to witness the wonderous dualities of nature: raw, brutal and unforgiving but nurturing and awe-inspiring at the same time.

As the days shorten, almost all life starts to depart seeking warmer lands. But those who stay are surrounded by glacial beauty and an otherworldly stillness that stands unmatched. In peak winter months, the sun seems to live only in memory. Its absence however, is only an illusion: shimmering displays of blue, red, yellow, green, and orange auroras shifting and snaking like billowing curtains across the pitch black sky remind me that the light shall one day return.

Even the emptiness of the land is deceptive. Look closely and out waddles a flock of penguins from behind an ice shelf on the Antarctic peninsula.

Identify the literary device in the sentence given below:

"shimmering displays of blue, red, yellow, green, and orange auroras shifting and snaking like billowing curtains across the pitch black sky..."

Choose the correct option:-

1. metaphor
2. alliteration
3. simile
4. assonance

Options :

- 485584105649. 1
- 485584105650. 2
- 485584105651. 3
- 485584105652. 4

Question Number : 14 Question Id : 48558426414 Question Type : MCQ Option Shuffling : No Is Question Mandatory : No Calculator : None Response Time : N.A Think Time : N.A Minimum Instruction Time : 0

Correct Marks : 5 Wrong Marks : 1

Question Key Details :

Key	Value
Comprehension	Comp3

In stark contrast to where I grew up-in warm, lush green Trivandrum, Kerala, filled with rich sights, sounds and people-life at the Poles is quiet. The harshness of winter brings along with it an eerie desolation and near-total silence. Survival in this frigid, dark and windy terrain is only for the fittest. A misstep can mean anything from an icy injury to a bitter, benumbed death.

But while it is tenuous, life here is also humbling-physically, mentally, and even spiritually. The experience has allowed me to witness the wonderous dualities of nature: raw, brutal and unforgiving but nurturing and awe-inspiring at the same time.

As the days shorten, almost all life starts to depart seeking warmer lands. But those who stay are surrounded by glacial beauty and an otherworldly stillness that stands unmatched. In peak winter months, the sun seems to live only in memory. Its absence however, is only an illusion: shimmering displays of blue, red, yellow, green, and orange auroras shifting and snaking like billowing curtains across the pitch black sky remind me that the light shall one day return.

Even the emptiness of the land is deceptive. Look closely and out waddles a flock of penguins from behind an ice shelf on the Antarctic peninsula.

Identify how life at the Poles is in stark contrast to the writer's native Kerala.

warm and lush green vs frigid and dark

death vs life

humorous vs harsh

rich sights & sounds vs eerie desolation & silence

1. A and D
2. B and C
3. A Only
4. C Only

Options :

- 485584105653. 1
- 485584105654. 2
- 485584105655. 3

Question Number : 15 Question Id : 48558426415 Question Type : MCQ Option Shuffling : No Is Question Mandatory : No Calculator : None
Response Time : N.A Think Time : N.A Minimum Instruction Time : 0

Correct Marks : 5 Wrong Marks : 1

Question Key Details :

Key	Value
Comprehension	Comp3

In stark contrast to where I grew up-in warm, lush green Trivandrum, Kerala, filled with rich sights, sounds and people-life at the Poles is quiet. The harshness of winter brings along with it an eerie desolation and near-total silence. Survival in this frigid, dark and windy terrain is only for the fittest. A misstep can mean anything from an icy injury to a bitter, benumbed death.

But while it is tenuous, life here is also humbling-physically, mentally, and even spiritually. The experience has allowed me to witness the wonderous dualities of nature: raw, brutal and unforgiving but nurturing and awe-inspiring at the same time.

As the days shorten, almost all life starts to depart seeking warmer lands. But those who stay are surrounded by glacial beauty and an otherworldly stillness that stands unmatched. In peak winter months, the sun seems to live only in memory. Its absence however, is only an illusion: shimmering displays of blue, red, yellow, green, and orange auroras shifting and snaking like billowing curtains across the pitch black sky remind me that the light shall one day return.

Even the emptiness of the land is deceptive. Look closely and out waddles a flock of penguins from behind an ice shelf on the Antarctic peninsula.

Match the words in List I with their meanings in List II

LIST I		LIST II	
A.	frigid	I.	weak and slight
B.	tenuous	II.	shining with soft, steady light
C.	billowing	III.	very cold
D.	Shimmering	IV.	to rise & roll like waves

Choose the correct answer from the options given below:

1. A-II,B-IV,C-III,D-I
2. A-I,B-IV,C-II,D-III
3. A-IV,B-III,C-I,D-II
4. A-III,B-I,C-IV,D-II

Options :

485584105657. 1
485584105658. 2
485584105659. 3
485584105660. 4

Sub-Section Number : 4
Sub-Section Id : 4855841965
Question Shuffling Allowed : Yes
Is Section Default? : null

Question Number : 16 Question Id : 48558426416 Question Type : MCQ Option Shuffling : No Is Question Mandatory : No Calculator : None
Response Time : N.A Think Time : N.A Minimum Instruction Time : 0

Correct Marks : 5 Wrong Marks : 1

Question Key Details :

Key	Value
Comprehension	MCQ

Mark the correct Active Voice of the following:

"The wall is being built by the mason."

1. The mason has built this wall.
2. The mason is building the wall.
3. The mason was building the wall.
4. The mason built this wall.

Options :

- 485584105661. 1
- 485584105662. 2
- 485584105663. 3
- 485584105664. 4

Question Number : 17 Question Id : 48558426417 Question Type : MCQ Option Shuffling : No Is Question Mandatory : No Calculator : None Response Time : N.A Think Time : N.A Minimum Instruction Time : 0

Correct Marks : 5 Wrong Marks : 1

Question Key Details :

Key	Value
Comprehension	MCQ

Choose the option which best expresses the same sentence in Passive Voice.

Somebody cleans the room every day.

1. The room is cleaned every day.
2. The room is being cleaned every day.
3. The room has been cleaned every day.
4. The room is being cleaned every day by somebody.

Options :

- 485584105665. 1
- 485584105666. 2
- 485584105667. 3
- 485584105668. 4

Question Number : 18 Question Id : 48558426418 Question Type : MCQ Option Shuffling : No Is Question Mandatory : No Calculator : None Response Time : N.A Think Time : N.A Minimum Instruction Time : 0

Correct Marks : 5 Wrong Marks : 1

Question Key Details :

Key	Value
Comprehension	MCQ

Change the following to Direct Speech by choosing the correct answer from the options given:

The judge asked the thief what he had been doing with his hand in the gentleman's pocket.

1. The judge said to the thief, "What were you doing with your hand in the gentleman's pocket?"
2. The judge said to the gentleman, "What was the thief doing in your pocket with his hand ?"
3. The judge said to the thief, "What are you doing with your hand in the gentleman's pocket?"
4. The judge asked the thief, "Why are you putting your hand in the gentleman's pocket?"

Options :

- 485584105669. 1
- 485584105670. 2

485584105671. 3
485584105672. 4

Question Number : 19 Question Id : 48558426419 Question Type : MCQ Option Shuffling : No Is Question Mandatory : No Calculator : None Response Time : N.A Think Time : N.A Minimum Instruction Time : 0

Correct Marks : 5 Wrong Marks : 1

Question Key Details :

Key	Value
Comprehension	MCQ

Choose the correct option to change the following question into Indirect Speech.

Julia said that she could not attend our wedding.

1. Julia said, " I could not attend your wedding. "
2. Julia said, "I will not attend your wedding. "
3. Julia said, "I am not attending your wedding. "
4. Julia said, "I cannot attend your wedding. "

Options :

485584105673. 1
485584105674. 2
485584105675. 3
485584105676. 4

Question Number : 20 Question Id : 48558426420 Question Type : MCQ Option Shuffling : No Is Question Mandatory : No Calculator : None Response Time : N.A Think Time : N.A Minimum Instruction Time : 0

Correct Marks : 5 Wrong Marks : 1

Question Key Details :

Key	Value
Comprehension	MCQ

Rearrange the sentences to make a paragraph -

- A. Now divided into two separate states of India and Pakistan,
- B. The population of India as a single geographical and cultural unit,
- C. which have come to India throughout the fifty to sixty centuries of her long history.
- D. forms one-fifth of the entire population of the world, and presents, at first sight, a bewildering variety of cultures.

Choose the correct answer from the options given below:

1. A, C, B, D
2. B, A, D, C
3. C, D, A, B
4. B, D, C, A

Options :

485584105677. 1
485584105678. 2
485584105679. 3
485584105680. 4

Question Number : 21 Question Id : 48558426421 Question Type : MCQ Option Shuffling : No Is Question Mandatory : No Calculator : None Response Time : N.A Think Time : N.A Minimum Instruction Time : 0

Correct Marks : 5 Wrong Marks : 1

Question Key Details :

Key	Value
Comprehension	MCQ

Rearrange the sentences to make a paragraph -

- A. containing the original texts of the Vedas
- B. each of the four Vedas is divided into the Samhita portion
- C. and the Brahmana portion, containing interpretations of the contents of the original texts
- D. The Vedic literature consists of the four Vedas and several auxiliary works

Choose the correct answer from the options given below:

- 1. D, C, A, B
- 2. D, B, A, C
- 3. B, C, A, D
- 4. C, B, D, A

Options :

- 485584105681. 1
- 485584105682. 2
- 485584105683. 3
- 485584105684. 4

Question Number : 22 Question Id : 48558426422 Question Type : MCQ Option Shuffling : No Is Question Mandatory : No Calculator : None Response Time : N.A Think Time : N.A Minimum Instruction Time : 0

Correct Marks : 5 Wrong Marks : 1

Question Key Details :

Key	Value
Comprehension	MCQ

Match the words given in List I with the meanings given in List II:

LIST I		LIST II	
Foreign words		Meaning	
A.	exempli gratia	I.	Connection
B.	nexus	II.	Shortcoming
C.	Literati	III.	for example
D.	Lacuna	IV.	Literary persons

Choose the correct answer from the options given below:

- 1. A-I, B-II, C-III, D-IV
- 2. A-IV, B-II, C-III, D-I
- 3. A-IV, B-III, C-II, D-I
- 4. A-III, B-I, C-IV, D-II

Options :

- 485584105685. 1
- 485584105686. 2
- 485584105687. 3
- 485584105688. 4

Question Number : 23 Question Id : 48558426423 Question Type : MCQ Option Shuffling : No Is Question Mandatory : No Calculator : None Response Time : N.A Think Time : N.A Minimum Instruction Time : 0

Correct Marks : 5 Wrong Marks : 1

Question Key Details :

Key	Value
Comprehension	MCQ

Choose the option which gives the correct meaning of the foreign word:

"GRATIS"

1. free of charge
2. joy of living
3. really
4. in a mass

Options :

- 485584105689. 1
- 485584105690. 2
- 485584105691. 3
- 485584105692. 4

Question Number : 24 Question Id : 48558426424 Question Type : MCQ Option Shuffling : No Is Question Mandatory : No Calculator : None Response Time : N.A Think Time : N.A Minimum Instruction Time : 0

Correct Marks : 5 Wrong Marks : 1

Question Key Details :

Key	Value
Comprehension	MCQ

Choose the synonym of the underlined word in the following sentence:

The showroom has been refurbished recently.

- A. sold
- B. renovated
- C. cleaned
- D. shifted

Choose the correct answer from the options given below:

1. C
2. D
3. B
4. A

Options :

- 485584105693. 1
- 485584105694. 2
- 485584105695. 3
- 485584105696. 4

Question Number : 25 Question Id : 48558426425 Question Type : MCQ Option Shuffling : No Is Question Mandatory : No Calculator : None Response Time : N.A Think Time : N.A Minimum Instruction Time : 0

Correct Marks : 5 Wrong Marks : 1

Question Key Details :

Key	Value
Comprehension	MCQ

From the options below choose the synonym for the word "INSOLENCE":

1. Audacity
2. Impart
3. Demonstration
4. Stimulate

Options :

- 485584105697. 1
- 485584105698. 2
- 485584105699. 3
- 485584105700. 4

Question Number : 26 Question Id : 48558426426 Question Type : MCQ Option Shuffling : No Is Question Mandatory : No Calculator : None Response Time : N.A Think Time : N.A Minimum Instruction Time : 0

Correct Marks : 5 Wrong Marks : 1

Question Key Details :

Key	Value
Comprehension	MCQ

Choose the correct option from the words given below:

_____ child has to bring Rs. 500/- for the trip.

1. Every
2. Each
3. Both
4. All

Options :

- 485584105701. 1
- 485584105702. 2
- 485584105703. 3
- 485584105704. 4

Question Number : 27 Question Id : 48558426427 Question Type : MCQ Option Shuffling : No Is Question Mandatory : No Calculator : None Response Time : N.A Think Time : N.A Minimum Instruction Time : 0

Correct Marks : 5 Wrong Marks : 1

Question Key Details :

Key	Value
Comprehension	MCQ

Fill in the blank with the appropriate pair of articles from the options given below.

"He would make _____ better statesman than _____ University Professor."

1. a , an
2. the , an
3. a , the
4. a , a

Options :

- 485584105705. 1
- 485584105706. 2
- 485584105707. 3
- 485584105708. 4

Question Number : 28 Question Id : 48558426428 Question Type : MCQ Option Shuffling : No Is Question Mandatory : No Calculator : None
Response Time : N.A Think Time : N.A Minimum Instruction Time : 0

Correct Marks : 5 Wrong Marks : 1

Question Key Details :

Key	Value
Comprehension	MCQ

Choose the correct conversion of the following Assertive sentence to Exclamatory sentence:

It is sad, we have lost the match.

1. Alas! we lost the match.
2. Alas! we have lost the match.
3. Alas! we had lost the match.
4. Alas! the match had been lost.

Options :

- 485584105709. 1
- 485584105710. 2
- 485584105711. 3
- 485584105712. 4

Question Number : 29 Question Id : 48558426429 Question Type : MCQ Option Shuffling : No Is Question Mandatory : No Calculator : None
Response Time : N.A Think Time : N.A Minimum Instruction Time : 0

Correct Marks : 5 Wrong Marks : 1

Question Key Details :

Key	Value
Comprehension	MCQ

Choose the correct form of the Assertive sentence for the following Exclamatory sentence:

If only I were young again!

1. I were young again.
2. I wished I were young again.
3. I wish I were young again.
4. I had wished I were young again.

Options :

- 485584105713. 1
- 485584105714. 2
- 485584105715. 3
- 485584105716. 4

Question Number : 30 Question Id : 48558426430 Question Type : MCQ Option Shuffling : No Is Question Mandatory : No Calculator : None
Response Time : N.A Think Time : N.A Minimum Instruction Time : 0

Correct Marks : 5 Wrong Marks : 1

Question Key Details :

Key	Value
Comprehension	MCQ

Fill in the blank with the appropriate preposition:

The assignment must be submitted ____ next Monday.

1. for
2. in
3. to
4. by

Options :

- 485584105717. 1
- 485584105718. 2
- 485584105719. 3
- 485584105720. 4

Question Number : 31 Question Id : 48558426431 Question Type : MCQ Option Shuffling : No Is Question Mandatory : No Calculator : None Response Time : N.A Think Time : N.A Minimum Instruction Time : 0

Correct Marks : 5 Wrong Marks : 1

Question Key Details :

Key	Value
Comprehension	MCQ

From the options below, choose the correct preposition to fill in the blank:

After the party, Sumit returned home ____ car.

1. from
2. by
3. to
4. into

Options :

- 485584105721. 1
- 485584105722. 2
- 485584105723. 3
- 485584105724. 4

Question Number : 32 Question Id : 48558426432 Question Type : MCQ Option Shuffling : No Is Question Mandatory : No Calculator : None Response Time : N.A Think Time : N.A Minimum Instruction Time : 0

Correct Marks : 5 Wrong Marks : 1

Question Key Details :

Key	Value
Comprehension	MCQ

Fill in the blank with a suitable Modal. Choose the correct option from the options given below:

_____ I have another cup of tea? It is very chilly outside.

1. will
2. can
3. must
4. could

Options :

- 485584105725. 1
- 485584105726. 2
- 485584105727. 3

485584105728. 4

Question Number : 33 Question Id : 48558426433 Question Type : MCQ Option Shuffling : No Is Question Mandatory : No Calculator : None Response Time : N.A Think Time : N.A Minimum Instruction Time : 0

Correct Marks : 5 Wrong Marks : 1

Question Key Details :

Key	Value
Comprehension	MCQ

Fill in the blank with an appropriate Modal from the options:

One _____ abide by the laws.

1. must
2. should
3. may
4. could

Options :

- 485584105729. 1
- 485584105730. 2
- 485584105731. 3
- 485584105732. 4

Question Number : 34 Question Id : 48558426434 Question Type : MCQ Option Shuffling : No Is Question Mandatory : No Calculator : None Response Time : N.A Think Time : N.A Minimum Instruction Time : 0

Correct Marks : 5 Wrong Marks : 1

Question Key Details :

Key	Value
Comprehension	MCQ

Choose the correct salutation for writing a personal letter:

1. Dear sir
2. My dear Sheela
3. Dear Mr. Nayak
4. Sir

Options :

- 485584105733. 1
- 485584105734. 2
- 485584105735. 3
- 485584105736. 4

Question Number : 35 Question Id : 48558426435 Question Type : MCQ Option Shuffling : No Is Question Mandatory : No Calculator : None Response Time : N.A Think Time : N.A Minimum Instruction Time : 0

Correct Marks : 5 Wrong Marks : 1

Question Key Details :

Key	Value
Comprehension	MCQ

Choose the suitable part of speech for the underlined word in the given sentence:

He knows me better than you.

1. Adjective
2. Preposition
3. Adverb
4. Conjunction

Options :

485584105737. 1
485584105738. 2
485584105739. 3
485584105740. 4

Question Number : 36 Question Id : 48558426436 Question Type : MCQ Option Shuffling : No Is Question Mandatory : No Calculator : None Response Time : N.A Think Time : N.A Minimum Instruction Time : 0

Correct Marks : 5 Wrong Marks : 1

Question Key Details :

Key	Value
Comprehension	MCQ

Choose the part of the sentence that has an error:

1. No sooner she had realized
2. her blunder than
3. she began
4. to take corrective measures

Options :

485584105741. 1
485584105742. 2
485584105743. 3
485584105744. 4

Question Number : 37 Question Id : 48558426437 Question Type : MCQ Option Shuffling : No Is Question Mandatory : No Calculator : None Response Time : N.A Think Time : N.A Minimum Instruction Time : 0

Correct Marks : 5 Wrong Marks : 1

Question Key Details :

Key	Value
Comprehension	MCQ

Choose the part of a sentence that is grammatically incorrect

1. What has excited many
2. in India is how AI can be a
3. powerful change agent by
4. bridge the digital divide

Options :

485584105745. 1
485584105746. 2
485584105747. 3
485584105748. 4

Question Number : 38 Question Id : 48558426438 Question Type : MCQ Option Shuffling : No Is Question Mandatory : No Calculator : None Response Time : N.A Think Time : N.A Minimum Instruction Time : 0

Correct Marks : 5 Wrong Marks : 1

Question Key Details :

Key	Value
Comprehension	MCQ

Match List I with List II

LIST I		LIST II	
A.	Call on	I.	Suspend
B.	Call off	II.	Demand
C.	Cast off	III.	Remove
D.	Call for	IV.	Visit a person

Choose the correct answer from the options given below:

1. A-II, B-IV, C-I, D-III

2. A-IV, B-III, C-II, D-I

3. A-I, B-II, C-IV, D-III

4. A-IV, B-I, C-III, D-II

Options :

485584105749. 1

485584105750. 2

485584105751. 3

485584105752. 4

Question Number : 39 Question Id : 48558426439 Question Type : MCQ Option Shuffling : No Is Question Mandatory : No Calculator : None Response Time : N.A Think Time : N.A Minimum Instruction Time : 0

Correct Marks : 5 Wrong Marks : 1

Question Key Details :

Key	Value
Comprehension	MCQ

Choose the best option to complete the following sentence:

The fear that COVID has broken _____ in our city is not unfounded.

1. up

2. about

3. down

4. out

Options :

485584105753. 1

485584105754. 2

485584105755. 3

485584105756. 4

Question Number : 40 Question Id : 48558426440 Question Type : MCQ Option Shuffling : No Is Question Mandatory : No Calculator : None Response Time : N.A Think Time : N.A Minimum Instruction Time : 0

Correct Marks : 5 Wrong Marks : 1

Question Key Details :

Key	Value
Comprehension	MCQ

Fill in the blanks with the correct pair of homonyms from the options given below:

In spite of the _____ paw, the bird struggled to _____ high in the sky.

1. sore, soar
2. sour, soar
3. soar, sore
4. sore, sour

Options :

485584105757. 1
485584105758. 2
485584105759. 3
485584105760. 4

Question Number : 41 Question Id : 48558426441 Question Type : MCQ Option Shuffling : No Is Question Mandatory : No Calculator : None Response Time : N.A Think Time : N.A Minimum Instruction Time : 0

Correct Marks : 5 Wrong Marks : 1

Question Key Details :

Key	Value
Comprehension	MCQ

Rearrange the phrases to make a meaningful sentence.

- A. As I had agreed to keep quiet
- B. I did not like his
- C. But I had no alternative
- D. Comments on my paper

Choose the correct answer from the options given below:

1. B, D, C, A
2. D, B, C, A
3. A, C, D, B
4. C, B, A, D

Options :

485584105761. 1
485584105762. 2
485584105763. 3
485584105764. 4

Question Number : 42 Question Id : 48558426442 Question Type : MCQ Option Shuffling : No Is Question Mandatory : No Calculator : None Response Time : N.A Think Time : N.A Minimum Instruction Time : 0

Correct Marks : 5 Wrong Marks : 1

Question Key Details :

Key	Value
Comprehension	MCQ

Match the words in List I with their Antonyms in List II:

Match the Antonym

LIST I	LIST II
A. Cherish	I. disgrace
B. Exalt	II. discard
C. Ecstasy	III. attractive
D. Grisly	IV. despair

Choose the correct answer from the options given below:

1. A-III, B-I, C-IV, D-II
2. A-IV, B-I, C-II, D-III
3. A-I, B-II, C-III, D-IV
4. A-II, B-I, C-IV, D-III

Options :

485584105765. 1
485584105766. 2
485584105767. 3
485584105768. 4

Question Number : 43 Question Id : 48558426443 Question Type : MCQ Option Shuffling : No Is Question Mandatory : No Calculator : None Response Time : N.A Think Time : N.A Minimum Instruction Time : 0

Correct Marks : 5 Wrong Marks : 1

Question Key Details :

Key	Value
Comprehension	MCQ

From the options below, choose the correct Antonym of the word - 'INSIPID':

1. Prosaic
2. Lacklustre
3. Tasteless
4. Weakness

Options :

485584105769. 1
485584105770. 2
485584105771. 3
485584105772. 4

Question Number : 44 Question Id : 48558426444 Question Type : MCQ Option Shuffling : No Is Question Mandatory : No Calculator : None Response Time : N.A Think Time : N.A Minimum Instruction Time : 0

Correct Marks : 5 Wrong Marks : 1

Question Key Details :

Key	Value
Comprehension	MCQ

Choose the sentence containing Adverb of Affirmation from the following options:

1. He is far better now.
2. This story is well written.
3. Surely you are mistaken.
4. He therefore left school.

Options :

485584105773. 1
 485584105774. 2
 485584105775. 3
 485584105776. 4

Question Number : 45 Question Id : 48558426445 Question Type : MCQ Option Shuffling : No Is Question Mandatory : No Calculator : None Response Time : N.A Think Time : N.A Minimum Instruction Time : 0

Correct Marks : 5 Wrong Marks : 1

Question Key Details :

Key	Value
Comprehension	MCQ

Choose the sentence containing Adverb of Reason from the following options:

1. He therefore left the school.
2. He certainly went.
3. I am rather busy.
4. You are quite wrong.

Options :

485584105777. 1
 485584105778. 2
 485584105779. 3
 485584105780. 4

Question Number : 46 Question Id : 48558426446 Question Type : MCQ Option Shuffling : No Is Question Mandatory : No Calculator : None Response Time : N.A Think Time : N.A Minimum Instruction Time : 0

Correct Marks : 5 Wrong Marks : 1

Question Key Details :

Key	Value
Comprehension	MCQ

Fill in the blank with a suitable 'Question Tag' for the given sentence:

The scuba divers need air cylinders, _____

1. do they?
2. don't they?
3. need they?
4. needn't they?

Options :

485584105781. 1
 485584105782. 2
 485584105783. 3
 485584105784. 4

Question Number : 47 Question Id : 48558426447 Question Type : MCQ Option Shuffling : No Is Question Mandatory : No Calculator : None Response Time : N.A Think Time : N.A Minimum Instruction Time : 0

Correct Marks : 5 Wrong Marks : 1

Question Key Details :

Key	Value
Comprehension	MCQ

Choose the correct option to make the following sentence grammatically correct.

The people are trying _____ many of our old traditions and opting for modern interpretations.

1. to get rid of
2. to getting rid off
3. for got rid off
4. to be having rid off

Options :

- 485584105785. 1
- 485584105786. 2
- 485584105787. 3
- 485584105788. 4

Question Number : 48 Question Id : 48558426448 Question Type : MCQ Option Shuffling : No Is Question Mandatory : No Calculator : None Response Time : N.A Think Time : N.A Minimum Instruction Time : 0

Correct Marks : 5 Wrong Marks : 1

Question Key Details :

Key	Value
Comprehension	MCQ

The idiom 'To be thick in the head' means:

1. To be clever
2. To be irrational
3. To be stupid
4. To be angry

Options :

- 485584105789. 1
- 485584105790. 2
- 485584105791. 3
- 485584105792. 4

Question Number : 49 Question Id : 48558426449 Question Type : MCQ Option Shuffling : No Is Question Mandatory : No Calculator : None Response Time : N.A Think Time : N.A Minimum Instruction Time : 0

Correct Marks : 5 Wrong Marks : 1

Question Key Details :

Key	Value
Comprehension	MCQ

Match the following Idioms in List I with their meanings in List II:

LIST I Idioms		LIST II Meaning	
A.	Hit the nail on the head	I.	Make peace
B.	Smell a rat	II.	Hypocrite
C.	Bury the hatchet	III.	Do exactly the right thing
D.	A wolf in sheep's clothing	IV.	Suspect something

Choose the correct answer from the options given below:

1. A-II, B-III, C-IV, D-I
2. A-IV, B-II, C-III, D-I
3. A-III, B-IV, C-I, D-II
4. A-III, B-I, C-II, D-IV

Options :

485584105793. 1
485584105794. 2
485584105795. 3
485584105796. 4

Question Number : 50 Question Id : 48558426450 Question Type : MCQ Option Shuffling : No Is Question Mandatory : No Calculator : None Response Time : N.A Think Time : N.A Minimum Instruction Time : 0

Correct Marks : 5 Wrong Marks : 1

Question Key Details :

Key	Value
Comprehension	MCQ

Choose the sentence that has an Adjective Clause.

1. I expect to get a prize.
2. He laughs best who laughs last.
3. He confessed to his guilt.
4. You may sit wherever you like.

Options :

485584105797. 1
485584105798. 2
485584105799. 3
485584105800. 4

Hindi

Group Number :	2
Group Id :	485584603
Group Maximum Duration :	45
Group Minimum Duration :	45
Show Attended Group? :	No
Edit Attended Group? :	No
Break time :	0
Group Marks :	200
Is this Group for Examiner? :	No
Examiner permission :	Cant View
Show Progress Bar? :	No

Hindi

Section Id :	485584691
Section Number :	1
Section type :	Online
Mandatory or Optional :	Mandatory
Number of Questions :	50
Number of Questions to be attempted :	40
Section Marks :	200
Enable Mark as Answered Mark for Review and Clear Response :	Yes
Maximum Instruction Time :	0
Sub-Section Number :	1
Sub-Section Id :	4855841966
Question Shuffling Allowed :	No
Is Section Default? :	null

Question Number : 51 Question Id : 48558426511 Question Type : MCQ Option Shuffling : No Is Question Mandatory : No Calculator : None
Response Time : N.A Think Time : N.A Minimum Instruction Time : 0

Correct Marks : 5 Wrong Marks : 1

Question Key Details :

Key	Value
Comprehension	Compl

दिए गए गद्यांश को पढ़कर निम्नलिखित प्रश्नों के उत्तर दीजिए -

इस साल जुलाई में भारतीय रुपये ने तब पहली बार प्रति डॉलर 80 का मनोवैज्ञानिक स्तर पार किया, जब महंगाई पर लगाम कसने के लिए अमेरिकी फेडरल रिजर्व ने ब्याज दरें कई बार बढ़ाईं, नतीजतन डॉलर मजबूत हुआ। कुछ दिन थमने के बाद रुपये ने 28 सितंबर को एक बार फिर प्रति डॉलर 80 का निशान पार कर लिया और 81.9 के नए निचले स्तर पर पहुंच गया। थोड़ा संभला पर 3 अक्टूबर को फिर 81.7 पर आ लगा।

भारत के लिए ज्यादा फिक्र की बात यह है कि रुपये की गिरावट को थामने की आरबीआई की कोशिशें आंशिक तौर पर ही कामयाब रही हैं। इतना ही नहीं, रुपये को थामने के चक्कर में वह देश का विदेशी मुद्रा भंडार उलीच रहा है, जो पिछले साल 3 सितंबर को 642 अरब (52.4 लाख करोड़ रुपये) से घटते-घटते 23 सितंबर को 537 अरब डॉलर (43.9 लाख करोड़ रुपये) पर आ गया। दरअसल, आरबीआई की तरफ से सरकारी बैंक डॉलर की भारी खरीद का सहारा ले रहे हैं।

विशेषज्ञों को आने वाले हफ्तों में रुपये के और कमजोर होने का अंदेशा है क्योंकि निवेशक भारतीय वित्तीय बाजारों से लगातार रुखसत हो रहे हैं। विदेशी पोर्टफोलियो निवेशकों (एफपीआई) ने 2022 में अब तक भारतीय शेयर बाजारों से 1.68 लाख करोड़ रुपये निकाले। अकेले सितंबर में ही 7,600 करोड़ रुपये निकाले गए। अगर आरबीआई रुपये को टेका लगाने के लिए देश के विदेशी मुद्रा भंडार से रकम निकालता रहा है तो इसमें और ज्यादा कमी आ सकती है। फिलहाल देश के पास आठ माह के आयात के मूल्य के बराबर विदेशी मुद्रा भंडार है। चार महीने से कम के बराबर मूल्य को खतरे का निशान माना जाता है।

उपरोक्त गद्यांश का उचित शीर्षक बताइए -

1. भारतीय मुद्रा भंडार
2. डालर और रुपया की बढ़ोत्तरी
3. रुपये की गिरावट
4. भारतीय शेयर बाजार

Options :

485584106041. 1
485584106042. 2
485584106043. 3
485584106044. 4

Question Number : 52 Question Id : 48558426512 Question Type : MCQ Option Shuffling : No Is Question Mandatory : No Calculator : None
Response Time : N.A Think Time : N.A Minimum Instruction Time : 0

Correct Marks : 5 Wrong Marks : 1

Question Key Details :

Key	Value
Comprehension	Compl

दिए गए गद्यांश को पढ़कर निम्नलिखित प्रश्नों के उत्तर दीजिए -

इस साल जुलाई में भारतीय रुपये ने तब पहली बार प्रति डॉलर 80 का मनोवैज्ञानिक स्तर पार किया, जब महंगाई पर लगाम कसने के लिए अमेरिकी फेडरल रिजर्व ने ब्याज दरें कई बार बढ़ाईं, नतीजतन डॉलर मजबूत हुआ। कुछ दिन थमने के बाद रुपये ने 28 सितंबर को एक बार फिर प्रति डॉलर 80 का निशान पार कर लिया और 81.9 के नए निचले स्तर पर पहुंच गया। थोड़ा संभला पर 3 अक्टूबर को फिर 81.7 पर आ लगा।

भारत के लिए ज्यादा फिक्र की बात यह है कि रुपये की गिरावट को थामने की आरबीआई की कोशिशें आंशिक तौर पर ही कामयाब रही हैं। इतना ही नहीं, रुपये को थामने के चक्कर में वह देश का विदेशी मुद्रा भंडार उलीच रहा है, जो पिछले साल 3 सितंबर को 642 अरब (52.4 लाख करोड़ रुपये) से घटते-घटते 23 सितंबर को 537 अरब डॉलर (43.9 लाख करोड़ रुपये) पर आ गया। दरअसल, आरबीआई की तरफ से सरकारी बैंक डॉलर की भारी खरीद का सहारा ले रहे हैं।

विशेषज्ञों को आने वाले हफ्तों में रुपये के और कमजोर होने का अंदेशा है क्योंकि निवेशक भारतीय वित्तीय बाजारों से लगातार रुखसत हो रहे हैं। विदेशी पोर्टफोलियो निवेशकों (एफपीआई) ने 2022 में अब तक भारतीय शेयर बाजारों से 1.68 लाख करोड़ रुपये निकाले। अकेले सितंबर में ही 7,600 करोड़ रुपये निकाले गए। अगर आरबीआई रुपये को टेका लगाने के लिए देश के विदेशी मुद्रा भंडार से रकम निकालता रहा है तो इसमें और ज्यादा कमी आ सकती है। फिलहाल देश के पास आठ माह के आयात के मूल्य के बराबर विदेशी मुद्रा भंडार है। चार महीने से कम के बराबर मूल्य को खतरे का निशान माना जाता है।

गद्यांश के अनुसार पहली बार भारतीय रुपया प्रति डॉलर 80 रुपए कब पार किया?

1. जून
2. जुलाई
3. अगस्त
4. सितम्बर

Options :

485584106045. 1
485584106046. 2
485584106047. 3
485584106048. 4

Question Number : 53 Question Id : 48558426513 Question Type : MCQ Option Shuffling : No Is Question Mandatory : No Calculator : None
Response Time : N.A Think Time : N.A Minimum Instruction Time : 0

Correct Marks : 5 Wrong Marks : 1

Question Key Details :

Key	Value
Comprehension	Comp1

दिए गए गद्यांश को पढ़कर निम्नलिखित प्रश्नों के उत्तर दीजिए -

इस साल जुलाई में भारतीय रुपये ने तब पहली बार प्रति डॉलर 80 का मनोवैज्ञानिक स्तर पार किया, जब महंगाई पर लगाम कसने के लिए अमेरिकी फेडरल रिजर्व ने ब्याज दरें कई बार बढ़ाईं, नतीजतन डॉलर मजबूत हुआ। कुछ दिन थमने के बाद रुपये ने 28 सितंबर को एक बार फिर प्रति डॉलर 80 का निशान पार कर लिया और 81.9 के नए निचले स्तर पर पहुंच गया। थोड़ा संभला पर 3 अक्टूबर को फिर 81.7 पर आ लगा।

भारत के लिए ज्यादा फिक्र की बात यह है कि रुपये की गिरावट को थामने की आरबीआई की कोशिशें आंशिक तौर पर ही कामयाब रही हैं। इतना ही नहीं, रुपये को थामने के चक्कर में वह देश का विदेशी मुद्रा भंडार उलीच रहा है, जो पिछले साल 3 सितंबर को 642 अरब (52.4 लाख करोड़ रुपये) से घटते-घटते 23 सितंबर को 537 अरब डॉलर (43.9 लाख करोड़ रुपये) पर आ गया। दरअसल, आरबीआई की तरफ से सरकारी बैंक डॉलर की भारी खरीद का सहारा ले रहे हैं।

विशेषज्ञों को आने वाले हफ्तों में रुपये के और कमजोर होने का अंदेशा है क्योंकि निवेशक भारतीय वित्तीय बाजारों से लगातार रुखसत हो रहे हैं। विदेशी पोर्टफोलियो निवेशकों (एफपीआई) ने 2022 में अब तक भारतीय शेयर बाजारों से 1.68 लाख करोड़ रुपये निकाले। अकेले सितंबर में ही 7,600 करोड़ रुपये निकाले गए। अगर आरबीआई रुपये को टेका लगाने के लिए देश के विदेशी मुद्रा भंडार से रकम निकालता रहा है तो इसमें और ज्यादा कमी आ सकती है। फिलहाल देश के पास आठ माह के आयात के मूल्य के बराबर विदेशी मुद्रा भंडार है। चार महीने से कम के बराबर मूल्य को खतरे का निशान माना जाता है।

गद्यांश के अनुसार रुपये की गिरावट को रोकने के लिए भारतीय रिजर्व बैंक की कोशिशें कैसी रही हैं -

1. कामयाब
2. असफल
3. आंशिक तौर पर कामयाब
4. सफल

Options :

485584106049. 1
485584106050. 2
485584106051. 3
485584106052. 4

Question Number : 54 Question Id : 48558426514 Question Type : MCQ Option Shuffling : No Is Question Mandatory : No Calculator : None Response Time : N.A Think Time : N.A Minimum Instruction Time : 0

Correct Marks : 5 Wrong Marks : 1

Question Key Details :

Key	Value
Comprehension	Comp1

दिए गए गद्यांश को पढ़कर निम्नलिखित प्रश्नों के उत्तर दीजिए -

इस साल जुलाई में भारतीय रुपये ने तब पहली बार प्रति डॉलर 80 का मनोवैज्ञानिक स्तर पार किया, जब महंगाई पर लगाम कसने के लिए अमेरिकी फेडरल रिजर्व ने ब्याज दरें कई बार बढ़ाईं, नतीजतन डॉलर मजबूत हुआ। कुछ दिन थमने के बाद रुपये ने 28 सितंबर को एक बार फिर प्रति डॉलर 80 का निशान पार कर लिया और 81.9 के नए निचले स्तर पर पहुंच गया। थोड़ा संभला पर 3 अक्टूबर को फिर 81.7 पर आ लगा।

भारत के लिए ज्यादा फिक्र की बात यह है कि रुपये की गिरावट को थामने की आरबीआई की कोशिशें आंशिक तौर पर ही कामयाब रही हैं। इतना ही नहीं, रुपये को थामने के चक्कर में वह देश का विदेशी मुद्रा भंडार उलीच रहा है, जो पिछले साल 3 सितंबर को 642 अरब (52.4 लाख करोड़ रुपये) से घटते-घटते 23 सितंबर को 537 अरब डॉलर (43.9 लाख करोड़ रुपये) पर आ गया। दरअसल, आरबीआई की तरफ से सरकारी बैंक डॉलर की भारी खरीद का सहारा ले रहे हैं।

विशेषज्ञों को आने वाले हफ्तों में रुपये के और कमजोर होने का अंदेशा है क्योंकि निवेशक भारतीय वित्तीय बाजारों से लगातार रुखसत हो रहे हैं। विदेशी पोर्टफोलियो निवेशकों (एफपीआई) ने 2022 में अब तक भारतीय शेयर बाजारों से 1.68 लाख करोड़ रुपये निकाले। अकेले सितंबर में ही 7,600 करोड़ रुपये निकाले गए। अगर आरबीआई रुपये को टेका लगाने के लिए देश के विदेशी मुद्रा भंडार से रकम निकालता रहा है तो इसमें और ज्यादा कमी आ सकती है। फिलहाल देश के पास आठ माह के आयात के मूल्य के बराबर विदेशी मुद्रा भंडार है। चार महीने से कम के बराबर मूल्य को खतरे का निशान माना जाता है।

गद्यांश के अनुसार देश के पास कितने माह के आयात के मूल्य के बराबर विदेशी मुद्रा भंडार है?

1. चार महीने
2. तीन महीने
3. आठ महीने
4. छः महीने

Options :

485584106053. 1
485584106054. 2
485584106055. 3
485584106056. 4

Question Number : 55 Question Id : 48558426515 Question Type : MCQ Option Shuffling : No Is Question Mandatory : No Calculator : None Response Time : N.A Think Time : N.A Minimum Instruction Time : 0

Correct Marks : 5 Wrong Marks : 1

Question Key Details :

Key	Value
Comprehension	Comp1

दिए गए गद्यांश को पढ़कर निम्नलिखित प्रश्नों के उत्तर दीजिए -

इस साल जुलाई में भारतीय रुपये ने तब पहली बार प्रति डॉलर 80 का मनोवैज्ञानिक स्तर पार किया, जब महंगाई पर लगाम कसने के लिए अमेरिकी फेडरल रिजर्व ने ब्याज दरें कई बार बढ़ाईं, नतीजतन डॉलर मजबूत हुआ। कुछ दिन थमने के बाद रुपये ने 28 सितंबर को एक बार फिर प्रति डॉलर 80 का निशान पार कर लिया और 81.9 के नए निचले स्तर पर पहुंच गया। थोड़ा संभला पर 3 अक्टूबर को फिर 81.7 पर आ लगा।

भारत के लिए ज्यादा फिक्र की बात यह है कि रुपये की गिरावट को थामने की आरबीआई की कोशिशें आंशिक तौर पर ही कामयाब रही हैं। इतना ही नहीं, रुपये को थामने के चक्कर में वह देश का विदेशी मुद्रा भंडार उलीच रहा है, जो पिछले साल 3 सितंबर को 642 अरब (52.4 लाख करोड़ रुपये) से घटते-घटते 23 सितंबर को 537 अरब डॉलर (43.9 लाख करोड़ रुपये) पर आ गया। दरअसल, आरबीआई की तरफ से सरकारी बैंक डॉलर की भारी खरीद का सहारा ले रहे हैं।

विशेषज्ञों को आने वाले हफ्तों में रुपये के और कमजोर होने का अंदेशा है क्योंकि निवेशक भारतीय वित्तीय बाजारों से लगातार रुखसत हो रहे हैं। विदेशी पोर्टफोलियो निवेशकों (एफपीआई) ने 2022 में अब तक भारतीय शेयर बाजारों से 1.68 लाख करोड़ रुपये निकाले। अकेले सितंबर में ही 7,600 करोड़ रुपये निकाले गए। अगर आरबीआई रुपये को टेका लगाने के लिए देश के विदेशी मुद्रा भंडार से रकम निकालता रहा है तो इसमें और ज्यादा कमी आ सकती है। फिलहाल देश के पास आठ माह के आयात के मूल्य के बराबर विदेशी मुद्रा भंडार है। चार महीने से कम के बराबर मूल्य को खतरे का निशान माना जाता है।

गद्यांश के अनुसार 23 सितंबर को विदेशी मुद्रा भंडार कितना हो गया है -

1. 535 अरब डॉलर
2. 537 अरब डॉलर
3. 642 अरब डॉलर
4. 760 अरब डॉलर

Options :

485584106057. 1
485584106058. 2
485584106059. 3
485584106060. 4

Sub-Section Number : 2
Sub-Section Id : 4855841967
Question Shuffling Allowed : No
Is Section Default? : null

Question Number : 56 Question Id : 48558426516 Question Type : MCQ Option Shuffling : No Is Question Mandatory : No Calculator : None
Response Time : N.A Think Time : N.A Minimum Instruction Time : 0
Correct Marks : 5 Wrong Marks : 1

Question Key Details :

Key	Value
Comprehension	Comp2

निम्नलिखित गद्यांश को पढ़कर उससे संबंधित प्रश्नों के उत्तर दीजिए -

सामने कुछ खाली जगह थी, जिसके चारों ओर से गुजरने वाली सड़कों से किस्म-किस्म की गाड़ियों का आना-जाना लगा हुआ था। यह काफी व्यस्त इलाका था। तभी हमारी निगाह सड़क के उस पार गई, जहाँ एक छरहरे बदन वाली लम्बी-सी युवती किसी को रोककर उसके सिगरेट से अपनी सिगरेट सुलगा रही थी। फिर हल्के से गरदन झुका कृतज्ञता प्रकट कर, कश लगाती आगे बढ़ गई। मेरे भीतर एक चुहल पनपी, काश! वह हमारे विभास जी की सिगरेट से सिगरेट सुलगाती तब कुछ-न-कुछ तो हमारे अन्दर भी जरूर सुलगता। मगर भारतीय भद्रता का तकाजा था, हमने ऐसा कुछ व्यक्त नहीं किया। यह बात माननी पड़ेगी कि फ्रांसीसियों में एक खास तरह की मुलायमियत है, एक उन्मुक्तता, जो उनके पूरे जीवन व्यवहार को ही मोहक बना देती है। मेरे कवि-मित्र अग्रिशेखर इन बातों को स्वीकार तो करते हैं लेकिन उनका मानना है कि उदारीकरण से उनके भीतर एक किस्म का शातिरपना भी पनपा है। आखिर पूँजी जीवन की काव्यात्मकता को तो नष्ट करती ही है। हम अन्दर से पूरी तरह भरे हुए थे। तभी हमारी निगाह पटरियों पर किनारे एकदम सिकुड़कर बैठे अपने शरीर को पूरी तरह लिहाफ से ढँके एक फ्रेंच आदमी पर गई। उसने चेहरा भी ढँक रखा था - शायद उसे याचना में संकोच हो रहा हो। यह भी सम्भव था कि उसने ठंड से बचने के लिए ऐसा किया हो।

उपरोक्त गद्यांश का उचित शीर्षक क्या होगा?

1. यूरोप यात्रा
2. विदेश यात्रा
3. फ्रांस की धरती
4. यात्रा

Options :

485584106061. 1
485584106062. 2
485584106063. 3
485584106064. 4

Question Number : 57 Question Id : 48558426517 Question Type : MCQ Option Shuffling : No Is Question Mandatory : No Calculator : None

Response Time : N.A Think Time : N.A Minimum Instruction Time : 0

Correct Marks : 5 Wrong Marks : 1

Question Key Details :

Key	Value
Comprehension	Comp2

निम्नलिखित गद्यांश को पढ़कर उससे संबंधित प्रश्नों के उत्तर दिजिए -

सामने कुछ खाली जगह थी, जिसके चारों ओर से गुजरने वाली सड़कों से किस्म-किस्म की गाड़ियों का आना-जाना लगा हुआ था। यह काफी व्यस्त इलाका था। तभी हमारी निगाह सड़क के उस पार गई, जहाँ एक छरहरे बदन वाली लम्बी-सी युवती किसी को रोककर उसके सिगरेट से अपनी सिगरेट सुलगा रही थी। फिर हल्के से गरदन झुका कृतज्ञता प्रकट कर, कश लगाती आगे बढ़ गई। मेरे भीतर एक चुहल पनपी, काश! वह हमारे विभास जी की सिगरेट से सिगरेट सुलगाती तब कुछ-न-कुछ तो हमारे अन्दर भी जरूर सुलगता। मगर भारतीय भद्रता का तकाजा था, हमने ऐसा कुछ व्यक्त नहीं किया। यह बात माननी पड़ेगी कि फ्रांसीसियों में एक खास तरह की मुलायमियत है, एक उन्मुक्तता, जो उनके पूरे जीवन व्यवहार को ही मोहक बना देती है। मेरे कवि-मित्र अग्निशेखर इन बातों को स्वीकार तो करते हैं लेकिन उनका मानना है कि उदासीकरण से उनके भीतर एक किस्म का शातिरपना भी पनपा है। आखिर पूँजी जीवन की काव्यात्मकता को तो नष्ट करती ही है। हम अन्दर से पूरी तरह भरे हुए थे। तभी हमारी निगाह पटरियों पर किनारे एकदम सिकुड़कर बैठे अपने शरीर को पूरी तरह लिहाफ से ढँके एक फ्रेंच आदमी पर गई। उसने चेहरा भी ढँक रखा था - शायद उसे याचना में संकोच हो रहा हो। यह भी सम्भव था कि उसने ठंड से बचने के लिए ऐसा किया हो।

फ्रांसीसियों की कौन सी विशेषता लेखक को प्रभावित करती है?

1. भद्रता
2. मुलायमित एवं उन्मुक्तता
3. शातिरपना
4. कृतज्ञता

Options :

485584106065. 1
485584106066. 2
485584106067. 3
485584106068. 4

Question Number : 58 Question Id : 48558426518 Question Type : MCQ Option Shuffling : No Is Question Mandatory : No Calculator : None

Response Time : N.A Think Time : N.A Minimum Instruction Time : 0

Correct Marks : 5 Wrong Marks : 1

Question Key Details :

Key	Value
Comprehension	Comp2

निम्नलिखित गद्यांश को पढ़कर उससे संबंधित प्रश्नों के उत्तर दिजिए -

सामने कुछ खाली जगह थी, जिसके चारों ओर से गुजरने वाली सड़कों से किस्म-किस्म की गाड़ियों का आना-जाना लगा हुआ था। यह काफी व्यस्त इलाका था। तभी हमारी निगाह सड़क के उस पार गई, जहाँ एक छरहरे बदन वाली लम्बी-सी युवती किसी को रोककर उसके सिगरेट से अपनी सिगरेट सुलगा रही थी। फिर हल्के से गरदन झुका कृतज्ञता प्रकट कर, कश लगाती आगे बढ़ गई। मेरे भीतर एक चुहल पनपी, काश! वह हमारे विभास जी की सिगरेट से सिगरेट सुलगाती तब कुछ-न-कुछ तो हमारे अन्दर भी जरूर सुलगता। मगर भारतीय भद्रता का तकाजा था, हमने ऐसा कुछ व्यक्त नहीं किया। यह बात माननी पड़ेगी कि फ्रांसीसियों में एक खास तरह की मुलायमियत है, एक उन्मुक्तता, जो उनके पूरे जीवन व्यवहार को ही मोहक बना देती है। मेरे कवि-मित्र अग्निशेखर इन बातों को स्वीकार तो करते हैं लेकिन उनका मानना है कि उदारीकरण से उनके भीतर एक किस्म का शातिरपना भी पनपा है। आखिर पूँजी जीवन की काव्यात्मकता को तो नष्ट करती ही है। हम अन्दर से पूरी तरह भरे हुए थे। तभी हमारी निगाह पटरियों पर किनारे एकदम सिकुड़कर बैठे अपने शरीर को पूरी तरह लिहाफ से ढँके एक फ्रेंच आदमी पर गई। उसने चेहरा भी ढँक रखा था - शायद उसे याचना में संकोच हो रहा हो। यह भी सम्भव था कि उसने ठंड से बचने के लिए ऐसा किया हो।

फ्रेंच व्यक्ति बेंच पर सिकुड़कर क्यों बैठा हुआ था?

1. ठंड के कारण
2. कृतज्ञता के कारण
3. अनायास
4. वह किसी की प्रतीक्षा कर रहा था

Options :

485584106069. 1
485584106070. 2
485584106071. 3
485584106072. 4

Question Number : 59 Question Id : 48558426519 Question Type : MCQ Option Shuffling : No Is Question Mandatory : No Calculator : None Response Time : N.A Think Time : N.A Minimum Instruction Time : 0

Correct Marks : 5 Wrong Marks : 1

Question Key Details :

Key	Value
Comprehension	Comp2

निम्नलिखित गद्यांश को पढ़कर उससे संबंधित प्रश्नों के उत्तर दिजिए -

सामने कुछ खाली जगह थी, जिसके चारों ओर से गुजरने वाली सड़कों से किस्म-किस्म की गाड़ियों का आना-जाना लगा हुआ था। यह काफी व्यस्त इलाका था। तभी हमारी निगाह सड़क के उस पार गई, जहाँ एक छरहरे बदन वाली लम्बी-सी युवती किसी को रोककर उसके सिगरेट से अपनी सिगरेट सुलगा रही थी। फिर हल्के से गरदन झुका कृतज्ञता प्रकट कर, कश लगाती आगे बढ़ गई। मेरे भीतर एक चुहल पनपी, काश! वह हमारे विभास जी की सिगरेट से सिगरेट सुलगाती तब कुछ-न-कुछ तो हमारे अन्दर भी जरूर सुलगता। मगर भारतीय भद्रता का तकाजा था, हमने ऐसा कुछ व्यक्त नहीं किया। यह बात माननी पड़ेगी कि फ्रांसीसियों में एक खास तरह की मुलायमियत है, एक उन्मुक्तता, जो उनके पूरे जीवन व्यवहार को ही मोहक बना देती है। मेरे कवि-मित्र अग्निशेखर इन बातों को स्वीकार तो करते हैं लेकिन उनका मानना है कि उदारीकरण से उनके भीतर एक किस्म का शातिरपना भी पनपा है। आखिर पूँजी जीवन की काव्यात्मकता को तो नष्ट करती ही है। हम अन्दर से पूरी तरह भरे हुए थे। तभी हमारी निगाह पटरियों पर किनारे एकदम सिकुड़कर बैठे अपने शरीर को पूरी तरह लिहाफ से ढँके एक फ्रेंच आदमी पर गई। उसने चेहरा भी ढँक रखा था - शायद उसे याचना में संकोच हो रहा हो। यह भी सम्भव था कि उसने ठंड से बचने के लिए ऐसा किया हो।

लेखक के अनुसार जीवन की काव्यात्मकता को कौन सा कारण प्रभावित कर रहा है?

1. भद्रता
2. भौतिकता
3. पूँजी का बढ़ता वर्चस्व
4. जीवन व्यवहार

Options :

485584106073. 1
485584106074. 2
485584106075. 3
485584106076. 4

Question Number : 60 Question Id : 48558426520 Question Type : MCQ Option Shuffling : No Is Question Mandatory : No Calculator : None Response Time : N.A Think Time : N.A Minimum Instruction Time : 0

Correct Marks : 5 Wrong Marks : 1

Question Key Details :

Key	Value
Comprehension	Comp2

निम्नलिखित गद्यांश को पढ़कर उससे संबंधित प्रश्नों के उत्तर دیجिए -

सामने कुछ खाली जगह थी, जिसके चारों ओर से गुजरने वाली सड़कों से किस्म-किस्म की गाड़ियों का आना-जाना लगा हुआ था। यह काफी व्यस्त इलाका था। तभी हमारी निगाह सड़क के उस पार गई, जहाँ एक छरहरे बदन वाली लम्बी-सी युवती किसी को रोककर उसके सिगरेट से अपनी सिगरेट सुलगा रही थी। फिर हल्के से गरदन झुका कृतज्ञता प्रकट कर, कश लगाती आगे बढ़ गई। मेरे भीतर एक चुहल पनपी, काश! वह हमारे विभास जी की सिगरेट से सिगरेट सुलगाती तब कुछ-न-कुछ तो हमारे अन्दर भी जरूर सुलगाता। मगर भारतीय भद्रता का तकाजा था, हमने ऐसा कुछ व्यक्त नहीं किया। यह बात माननी पड़ेगी कि फ्रांसीसियों में एक खास तरह की मुलायमियत है, एक उन्मुक्तता, जो उनके पूरे जीवन व्यवहार को ही मोहक बना देती है। मेरे कवि-मित्र अग्निशेखर इन बातों को स्वीकार तो करते हैं लेकिन उनका मानना है कि उदारीकरण से उनके भीतर एक किस्म का शातिरपना भी पनपा है। आखिर पूँजी जीवन की काव्यात्मकता को तो नष्ट करती ही है। हम अन्दर से पूरी तरह भरे हुए थे। तभी हमारी निगाह पटरियों पर किनारे एकदम सिकुड़कर बैठे अपने शरीर को पूरी तरह लिहाफ से ढँके एक फ्रेंच आदमी पर गई। उसने चेहरा भी ढँक रखा था - शायद उसे याचना में संकोच हो रहा हो। यह भी सम्भव था कि उसने ठंड से बचने के लिए ऐसा किया हो।

'भद्रता' शब्द से लेखक का अभिप्राय क्या है?

1. सौहार्द का भाव
2. मित्रता का भाग
3. प्रेम का भाव
4. संस्कारगत व्यवहार

Options :

485584106077. 1
485584106078. 2
485584106079. 3
485584106080. 4

Sub-Section Number : 3
Sub-Section Id : 4855841968
Question Shuffling Allowed : No
Is Section Default? : null

Question Number : 61 Question Id : 48558426521 Question Type : MCQ Option Shuffling : No Is Question Mandatory : No Calculator : None Response Time : N.A Think Time : N.A Minimum Instruction Time : 0

Correct Marks : 5 Wrong Marks : 1

Question Key Details :

Key	Value
Comprehension	Comp3

निम्नलिखित पद्यांश को पढ़कर उससे संबंधित प्रश्नों के उत्तर दीजिए:-

ऐसे क्षण अन्धकार घन में जैसे विद्युत
जागी पृथ्वी-तनया-कुमारिका-छबि अच्युत
देखते हुए निष्पलक, याद आया उपवन
विदेह का, - प्रथम स्नेह का लतान्तराल मिलन
नयनों का - नयनों से गोपन - प्रिय सम्भाषण, -
पलकों का नव पलकों पर प्रथमोत्थान-पतन, -
काँपते हुए किसलय, -झरते पराग-सुमदय, -
गाते खग-नव-जीवन-परिचय-तरु-मलय-वलय,-
ज्योति:प्रपात स्वर्गीय, -ज्ञात छबि प्रथम स्वीय,-
जानकी-नयन-कमनीय प्रथम कम्पन तुरीय।

उपर्युक्त पद्यांश में 'पृथ्वी-तनया कुमारिका' किसके लिए प्रयोग किया गया है?

1. राम
2. सीता
3. पृथ्वी
4. आकाश

Options :

485584106081. 1
485584106082. 2
485584106083. 3
485584106084. 4

**Question Number : 62 Question Id : 48558426522 Question Type : MCQ Option Shuffling : No Is Question Mandatory : No Calculator : None
Response Time : N.A Think Time : N.A Minimum Instruction Time : 0**

Correct Marks : 5 Wrong Marks : 1

Question Key Details :

Key	Value
Comprehension	Comp3

निम्नलिखित पद्यांश को पढ़कर उससे संबंधित प्रश्नों के उत्तर दीजिए:-

ऐसे क्षण अन्धकार घन में जैसे विद्युत
जागी पृथ्वी-तनया-कुमारिका-छबि अच्युत
देखते हुए निष्पलक, याद आया उपवन
विदेह का, - प्रथम स्नेह का लतान्तराल मिलन
नयनों का - नयनों से गोपन - प्रिय सम्भाषण, -
पलकों का नव पलकों पर प्रथमोत्थान-पतन, -
काँपते हुए किसलय, -झरते पराग-सुमदय, -
गाते खग-नव-जीवन-परिचय-तरु-मलय-वलय,-
ज्योति:प्रपात स्वर्गीय, -ज्ञात छबि प्रथम स्वीय,-
जानकी-नयन-कमनीय प्रथम कम्पन तुरीय।

प्रस्तुत पद्यांश में 'विदेह' का क्या अर्थ है -

1. सीता
2. जनक
3. राम
4. दशरथ

Options :

485584106085. 1
485584106086. 2
485584106087. 3
485584106088. 4

Question Number : 63 Question Id : 48558426523 Question Type : MCQ Option Shuffling : No Is Question Mandatory : No Calculator : None Response Time : N.A Think Time : N.A Minimum Instruction Time : 0 Correct Marks : 5 Wrong Marks : 1

Question Key Details :

Key	Value
Comprehension	Comp3

निम्नलिखित पद्यांश को पढ़कर उससे संबंधित प्रश्नों के उत्तर दीजिए:-

ऐसे क्षण अन्धकार घन में जैसे विद्युत
जागी पृथ्वी-तनया-कुमारिका-छबि अच्युत
देखते हुए निष्पलक, याद आया उपवन
विदेह का, - प्रथम स्नेह का लतान्तराल मिलन
नयनों का - नयनों से गोपन - प्रिय सम्भाषण, -
पलकों का नव पलकों पर प्रथमोत्थान-पतन, -
काँपते हुए किसलय, - झरते पराग-सुमदय, -
गाते खग-नव-जीवन-परिचय-तरु-मलय-वलय,-
ज्योतिःप्रपात स्वर्गीय, - ज्ञात छबि प्रथम स्वीय,-
जानकी-नयन-कमनीय प्रथम कम्पन तुरीय।

'ऐसे क्षण अन्धकार घन में जैसे विद्युत
जागी पृथ्वी तनया कुमारिका छबि अच्युत।'

उपरोक्त पंक्तियों का अर्थ होगा -

1. अन्धकार में दिया जलाया गया।
2. अन्धकार में पृथ्वी की छवि बहुत सुन्दर लगी।
3. अन्धकार के क्षणों में जैसे बिजली चमकी और पृथ्वी-पुत्री की छवि याद आ गयी।
4. अन्धकार में पृथ्वी गर्जना करने लगी।

Options :

485584106089. 1
485584106090. 2
485584106091. 3
485584106092. 4

Question Number : 64 Question Id : 48558426524 Question Type : MCQ Option Shuffling : No Is Question Mandatory : No Calculator : None Response Time : N.A Think Time : N.A Minimum Instruction Time : 0 Correct Marks : 5 Wrong Marks : 1

Question Key Details :

Key	Value
-----	-------

निम्नलिखित पद्यांश को पढ़कर उससे संबंधित प्रश्नों के उत्तर दीजिए:-

ऐसे क्षण अन्धकार घन में जैसे विद्युत
जागी पृथ्वी-तनया-कुमारिका-छबि अच्युत
देखते हुए निष्पलक, याद आया उपवन
विदेह का, - प्रथम स्नेह का लतान्तराल मिलन
नयनों का - नयनों से गोपन - प्रिय सम्भाषण, -
पलकों का नव पलकों पर प्रथमोत्थान-पतन, -
काँपते हुए किसलय, -झरते पराग-सुमदय, -
गाते खग-नव-जीवन-परिचय-तरु-मलय-वलय,-
ज्योतिःप्रपात स्वर्गीय, -ज्ञात छबि प्रथम स्वीय,-
जानकी-नयन-कमनीय प्रथम कम्पन तुरीय।

'खग' का पर्यायवाची शब्द है -

1. शेर
2. गाय
3. पक्षी
4. फल

Options :

485584106093. 1
485584106094. 2
485584106095. 3
485584106096. 4

Question Number : 65 Question Id : 48558426525 Question Type : MCQ Option Shuffling : No Is Question Mandatory : No Calculator : None Response Time : N.A Think Time : N.A Minimum Instruction Time : 0

Correct Marks : 5 Wrong Marks : 1

Question Key Details :

Key	Value
Comprehension	Comp3

निम्नलिखित पद्यांश को पढ़कर उससे संबंधित प्रश्नों के उत्तर दीजिए:-

ऐसे क्षण अन्धकार घन में जैसे विद्युत
जागी पृथ्वी-तनया-कुमारिका-छबि अच्युत
देखते हुए निष्पलक, याद आया उपवन
विदेह का, - प्रथम स्नेह का लतान्तराल मिलन
नयनों का - नयनों से गोपन - प्रिय सम्भाषण, -
पलकों का नव पलकों पर प्रथमोत्थान-पतन, -
काँपते हुए किसलय, -झरते पराग-सुमदय, -
गाते खग-नव-जीवन-परिचय-तरु-मलय-वलय,-
ज्योतिःप्रपात स्वर्गीय, -ज्ञात छबि प्रथम स्वीय,-
जानकी-नयन-कमनीय प्रथम कम्पन तुरीय।

प्रस्तुत पद्यांश में प्रयुक्त 'मलय' शब्द का पर्यायवाची है -

1. नभ
2. पृथ्वी
3. सीता
4. समीर

Options :

485584106097. 1
485584106098. 2
485584106099. 3
485584106100. 4

Sub-Section Number :

4

Sub-Section Id :

4855841969

Question Shuffling Allowed :

Yes

Is Section Default? :

null

Question Number : 66 Question Id : 48558426526 Question Type : MCQ Option Shuffling : No Is Question Mandatory : No Calculator : None Response Time : N.A Think Time : N.A Minimum Instruction Time : 0

Correct Marks : 5 Wrong Marks : 1

Question Key Details :

Key	Value
Comprehension	MCQ

हनुमान की पूंछ में, लग न पाई आग।
लंका सारी जल गई, गए निसाचर भाग। इस पद में कौन सा अलंकार है?

1. वक्रोक्ति
2. उपमा
3. अतिशयोक्ति
4. श्लेष

Options :

485584106101. 1
485584106102. 2
485584106103. 3
485584106104. 4

Question Number : 67 Question Id : 48558426527 Question Type : MCQ Option Shuffling : No Is Question Mandatory : No Calculator : None Response Time : N.A Think Time : N.A Minimum Instruction Time : 0

Correct Marks : 5 Wrong Marks : 1

Question Key Details :

Key	Value
Comprehension	MCQ

रूपक अलंकार में उपमान का _____ पर अभेद आरोपण होता है।

सही विकल्प चुनिए -

1. उपमेय
2. वाचक शब्द
3. समान शब्द
4. पर्यायवाची शब्द

Options :

485584106105. 1
485584106106. 2
485584106107. 3
485584106108. 4

Question Number : 68 Question Id : 48558426528 Question Type : MCQ Option Shuffling : No Is Question Mandatory : No Calculator : None Response Time : N.A Think Time : N.A Minimum Instruction Time : 0

Correct Marks : 5 Wrong Marks : 1

Question Key Details :

Key	Value
Comprehension	MCQ

'निसिदिन बरसत नैन हमारे' में कौन सा रस है?

1. संयोग शृंगार
2. वियोग शृंगार
3. करुण
4. वीर

Options :

485584106109. 1
485584106110. 2
485584106111. 3
485584106112. 4

Question Number : 69 Question Id : 48558426529 Question Type : MCQ Option Shuffling : No Is Question Mandatory : No Calculator : None Response Time : N.A Think Time : N.A Minimum Instruction Time : 0

Correct Marks : 5 Wrong Marks : 1

Question Key Details :

Key	Value
Comprehension	MCQ

'अर्द्ध' का विलोम है:

1. आधा
2. अधूरा
3. भाग
4. पूर्ण

Options :

485584106113. 1
485584106114. 2
485584106115. 3
485584106116. 4

Question Number : 70 Question Id : 48558426530 Question Type : MCQ Option Shuffling : No Is Question Mandatory : No Calculator : None Response Time : N.A Think Time : N.A Minimum Instruction Time : 0

Correct Marks : 5 Wrong Marks : 1

Question Key Details :

Key	Value
Comprehension	MCQ

सूची I का सूची II से मिलान कीजिए

सूची I - शब्द	सूची II - विलोम
A. सुख	I. मरण
B. जीवन	II. अवरोध
C. प्रवाह	III. पुराना
D. नया	IV. दुःख

निम्नलिखित विकल्पों में से सही उत्तर का चयन कीजिए :

1. A-I, B-II, C-III, D-IV
2. A-II, B-III, C-I, D-IV
3. A-IV, B-I, C-II, D-III
4. A-III, B-IV, C-I, D-II

Options :

485584106117. 1
485584106118. 2
485584106119. 3
485584106120. 4

Question Number : 71 Question Id : 48558426531 Question Type : MCQ Option Shuffling : No Is Question Mandatory : No Calculator : None Response Time : N.A Think Time : N.A Minimum Instruction Time : 0

Correct Marks : 5 Wrong Marks : 1

Question Key Details :

Key	Value
Comprehension	MCQ

पुल्लिंग शब्दों का चयन कीजिए:

- A. पक्षी
- B. कोयल
- C. बटेर
- D. टोली
- E. खटमल

नीचे दिए गए विकल्पों में से **सही उत्तर** का चयन कीजिए:

1. केवल A
2. केवल A और E
3. केवल B और C
4. केवल D और E

Options :

485584106121. 1
485584106122. 2
485584106123. 3
485584106124. 4

Question Number : 72 Question Id : 48558426532 Question Type : MCQ Option Shuffling : No Is Question Mandatory : No Calculator : None Response Time : N.A Think Time : N.A Minimum Instruction Time : 0

Correct Marks : 5 Wrong Marks : 1

Question Key Details :

Key	Value
Comprehension	MCQ

कौन सा शब्द 'स्त्रीलिंग' श्रेणी में नहीं है -

1. मंडली
2. सेना
3. कुटुंब
4. टोली

Options :

485584106125. 1
485584106126. 2
485584106127. 3
485584106128. 4

**Question Number : 73 Question Id : 48558426533 Question Type : MCQ Option Shuffling : No Is Question Mandatory : No Calculator : None
Response Time : N.A Think Time : N.A Minimum Instruction Time : 0
Correct Marks : 5 Wrong Marks : 1**

Question Key Details :

Key	Value
Comprehension	MCQ

इनमें से कौन सा विकल्प 'गदहा' का पर्यायवाची नहीं है?

1. गर्दभ
2. खर
3. अमर्ष
4. धूसर

Options :

485584106129. 1
485584106130. 2
485584106131. 3
485584106132. 4

**Question Number : 74 Question Id : 48558426534 Question Type : MCQ Option Shuffling : No Is Question Mandatory : No Calculator : None
Response Time : N.A Think Time : N.A Minimum Instruction Time : 0
Correct Marks : 5 Wrong Marks : 1**

Question Key Details :

Key	Value
Comprehension	MCQ

सूची I का सूची II से मिलान कीजिए

सूची I - शब्द	सूची II - पर्यायवाची
A. धरती	I. आकाश
B. पंकज	II. पृथ्वी
C. नभ	III. कमल
D. निशा	IV. रात्रि

निम्नलिखित विकल्पों में से सही उत्तर का चयन कीजिए :

1. A-II, B-IV, C-III, D-I

2. A-II, B-III, C-IV, D-I

3. A-II, B-III, C-I, D-IV

4. A-III, B-II, C-IV, D-I

Options :

485584106133. 1

485584106134. 2

485584106135. 3

485584106136. 4

Question Number : 75 Question Id : 48558426535 Question Type : MCQ Option Shuffling : No Is Question Mandatory : No Calculator : None Response Time : N.A Think Time : N.A Minimum Instruction Time : 0

Correct Marks : 5 Wrong Marks : 1

Question Key Details :

Key	Value
Comprehension	MCQ

'तप करने वाला' के लिए एक शब्द है -

- A. तपस्या
- B. तपस्वी
- C. यशस्वी
- D. मनस्वी

नीचे दिए गए विकल्पों में से **सही उत्तर** का चयन कीजिए:

1. D

2. B

3. C

4. A

Options :

485584106137. 1

485584106138. 2

485584106139. 3

485584106140. 4

Question Number : 76 Question Id : 48558426536 Question Type : MCQ Option Shuffling : No Is Question Mandatory : No Calculator : None Response Time : N.A Think Time : N.A Minimum Instruction Time : 0

Correct Marks : 5 Wrong Marks : 1

Question Key Details :

Key	Value
Comprehension	MCQ

सूची I का सूची II से मिलान कीजिए

सूची I		सूची II	
A.	जल में जन्म लेने वाला	I.	अंडज
B.	अंडे से जन्म लेने वाला	II.	नश्वर
C.	जो बहुत बोलता है	III.	जलज
D.	जो नष्ट होने वाला है	IV.	वाचाल

निम्नलिखित विकल्पों में से सही उत्तर का चयन कीजिए :

1. A-I, B-III, C-IV, D-II

2. A-III, B-I, C-IV, D-II

3. A-II, B-IV, C-I, D-III

4. A-IV, B-I, C-II, D-III

Options :

485584106141. 1

485584106142. 2

485584106143. 3

485584106144. 4

Question Number : 77 Question Id : 48558426537 Question Type : MCQ Option Shuffling : No Is Question Mandatory : No Calculator : None Response Time : N.A Think Time : N.A Minimum Instruction Time : 0

Correct Marks : 5 Wrong Marks : 1

Question Key Details :

Key	Value
Comprehension	MCQ

'घन' का अनेकार्थी शब्द नहीं है -

1. बादल

2. घना

3. घनिष्ट

4. हथौड़ा

Options :

485584106145. 1

485584106146. 2

485584106147. 3

485584106148. 4

Question Number : 78 Question Id : 48558426538 Question Type : MCQ Option Shuffling : No Is Question Mandatory : No Calculator : None Response Time : N.A Think Time : N.A Minimum Instruction Time : 0

Correct Marks : 5 Wrong Marks : 1

Question Key Details :

Key	Value
Comprehension	MCQ

'अंग' शब्द जिस अर्थ में प्रयुक्त होता है, असंगत युग्म चुनिए:

1. शरीर का अंग, विशेष भाग, हिस्सा
2. सामान्य भाग, वर्गीकरण
3. वर्गीकरण, भाग, बंटवारा
4. उपरोक्त में से कोई नहीं।

Options :

485584106149. 1
485584106150. 2
485584106151. 3
485584106152. 4

Question Number : 79 Question Id : 48558426539 Question Type : MCQ Option Shuffling : No Is Question Mandatory : No Calculator : None Response Time : N.A Think Time : N.A Minimum Instruction Time : 0

Correct Marks : 5 Wrong Marks : 1

Question Key Details :

Key	Value
Comprehension	MCQ

निम्नलिखित में वर्तनी की दृष्टि से कौन सा शब्द शुद्ध है?

1. रचियता
2. पारलौकिक
3. पुज्य
4. श्रेष्ट

Options :

485584106153. 1
485584106154. 2
485584106155. 3
485584106156. 4

Question Number : 80 Question Id : 48558426540 Question Type : MCQ Option Shuffling : No Is Question Mandatory : No Calculator : None Response Time : N.A Think Time : N.A Minimum Instruction Time : 0

Correct Marks : 5 Wrong Marks : 1

Question Key Details :

Key	Value
Comprehension	MCQ

नीचे दो कथन दिए गए हैं: एक अभिकथन (Assertion A) के रूप में लिखित है तो दूसरा उसके कारण (Reason R) के रूप में:

अभिकथन A: संस्कृत भाषा के वे शब्द जो अपने मूल रूप में हिन्दी भाषा में आ गए हैं, तत्सम शब्द कहलाते हैं।

अभिकथन R: आग, तत्सम शब्द है।

उपरोक्त कथन के आलोक में नीचे दिए गए विकल्पों में से **सही उत्तर** का चयन कीजिए:

1. A और B दोनों सत्य हैं और R, A की सही व्याख्या है
2. A और B दोनों सत्य हैं, लेकिन R, A की सही व्याख्या नहीं है
3. A सत्य है, लेकिन R असत्य है
4. A असत्य है, लेकिन R सत्य है

Options :

485584106157. 1
485584106158. 2
485584106159. 3
485584106160. 4

Question Number : 81 Question Id : 48558426541 Question Type : MCQ Option Shuffling : No Is Question Mandatory : No Calculator : None Response Time : N.A Think Time : N.A Minimum Instruction Time : 0

Correct Marks : 5 Wrong Marks : 1

Question Key Details :

Key	Value
Comprehension	MCQ

'फुनगी' किस प्रकार का शब्द है -

1. तद्भव
2. देशज
3. तत्सम
4. विदेशज

Options :

485584106161. 1
485584106162. 2
485584106163. 3
485584106164. 4

Question Number : 82 Question Id : 48558426542 Question Type : MCQ Option Shuffling : No Is Question Mandatory : No Calculator : None Response Time : N.A Think Time : N.A Minimum Instruction Time : 0

Correct Marks : 5 Wrong Marks : 1

Question Key Details :

Key	Value
Comprehension	MCQ

जन्मतिथि के अनुसार साहित्यकारों की वरीयता का उचित क्रम है -

- A. मीराबाई
- B. सूरदास
- C. निर्मल वर्मा
- D. भारतेन्दु
- E. महावीर प्रसाद द्विवेदी

नीचे दिए गए विकल्पों में से सही उत्तर का चयन कीजिए:

1. B, A, D, E, C
2. A, C, B, D, E
3. E, B, A, D, C
4. C, A, B, E, D

Options :

485584106165. 1
485584106166. 2
485584106167. 3
485584106168. 4

Question Number : 83 Question Id : 48558426543 Question Type : MCQ Option Shuffling : No Is Question Mandatory : No Calculator : None Response Time : N.A Think Time : N.A Minimum Instruction Time : 0

Correct Marks : 5 Wrong Marks : 1

Question Key Details :

Key	Value
-----	-------

'गबन' उपन्यास के लेखक हैं -

1. प्रेमचंद
2. धर्मवीर भारती
3. महादेवी वर्मा
4. रामधारी सिंह दिनकर

Options :

485584106169. 1
485584106170. 2
485584106171. 3
485584106172. 4

Question Number : 84 Question Id : 48558426544 Question Type : MCQ Option Shuffling : No Is Question Mandatory : No Calculator : None Response Time : N.A Think Time : N.A Minimum Instruction Time : 0

Correct Marks : 5 Wrong Marks : 1

Question Key Details :

Key	Value
Comprehension	MCQ

नीचे दो कथन दिए गए हैं: एक अभिकथन (Assertion A) के रूप में लिखित है तो दूसरा उसके कारण (Reason R) के रूप में:

अभिकथन A: प्रेमचंद हिन्दी साहित्य के प्रसिद्ध कवि हैं।

कारण R: प्रेमचंद का 'गोदान' उपन्यास हिन्दी का कालजयी उपन्यास है।

उपरोक्त कथन के आलोक में नीचे दिए गए विकल्पों में से **सही उत्तर** का चयन कीजिए:

1. A और R दोनों सत्य हैं और R, A की सही व्याख्या है
2. A और R दोनों सत्य हैं और R, A की सही व्याख्या नहीं है
3. A सत्य है, लेकिन R असत्य है
4. A असत्य है, लेकिन R सत्य है

Options :

485584106173. 1
485584106174. 2
485584106175. 3
485584106176. 4

Question Number : 85 Question Id : 48558426545 Question Type : MCQ Option Shuffling : No Is Question Mandatory : No Calculator : None Response Time : N.A Think Time : N.A Minimum Instruction Time : 0

Correct Marks : 5 Wrong Marks : 1

Question Key Details :

Key	Value
Comprehension	MCQ

आधिकारिक पत्र-लेखन में सम्मिलित नहीं है -

1. माता - पिता को फीस की सहायता हेतु लिखा गया पत्र
2. पुलिस अधीक्षक को लिखा गया शिकायती पत्र
3. अखबार के संपादक को लिखा गया सूचनात्मक पत्र
4. कार्यालय में छुट्टी के लिए दिया गया आवेदन पत्र

Options :

485584106177. 1
485584106178. 2
485584106179. 3
485584106180. 4

Question Number : 86 Question Id : 48558426546 Question Type : MCQ Option Shuffling : No Is Question Mandatory : No Calculator : None Response Time : N.A Think Time : N.A Minimum Instruction Time : 0

Correct Marks : 5 Wrong Marks : 1

Question Key Details :

Key	Value
Comprehension	MCQ

'घर की मुर्गी दाल बराबर' कहावत का क्या अर्थ है -

- A. मुर्गी खाना
- B. मुर्गी को दाल खिलाना
- C. अपने आदमी को कम महत्त्व देना
- D. मुर्गी को दाल से तौलना

नीचे दिए गए विकल्पों में से **सही उत्तर** का चयन कीजिए:

1. केवल D
2. केवल B
3. केवल C
4. केवल A

Options :

485584106181. 1
485584106182. 2
485584106183. 3
485584106184. 4

Question Number : 87 Question Id : 48558426547 Question Type : MCQ Option Shuffling : No Is Question Mandatory : No Calculator : None Response Time : N.A Think Time : N.A Minimum Instruction Time : 0

Correct Marks : 5 Wrong Marks : 1

Question Key Details :

Key	Value
Comprehension	MCQ

'अपनी करनी पार उतरनी' का अर्थ है -

1. प्रकृति विरुद्ध काम करना
2. अपने किए का फल भोगना
3. झगड़ा लगाना
4. हर तरफ से हानि होना

Options :

485584106185. 1
485584106186. 2
485584106187. 3
485584106188. 4

Question Number : 88 Question Id : 48558426548 Question Type : MCQ Option Shuffling : No Is Question Mandatory : No Calculator : None Response Time : N.A Think Time : N.A Minimum Instruction Time : 0

Correct Marks : 5 Wrong Marks : 1

Question Key Details :

Key	Value
Comprehension	MCQ

'नि' उपसर्ग युक्त सही शब्द है -

1. निरपराध
2. निवारण
3. निराकार
4. निर्गुण

Options :

485584106189. 1
485584106190. 2
485584106191. 3
485584106192. 4

Question Number : 89 Question Id : 48558426549 Question Type : MCQ Option Shuffling : No Is Question Mandatory : No Calculator : None Response Time : N.A Think Time : N.A Minimum Instruction Time : 0

Correct Marks : 5 Wrong Marks : 1

Question Key Details :

Key	Value
Comprehension	MCQ

सूची I का सूची II से मिलान कीजिए -

सूची I - शब्द	सूची II - प्रत्यय
A. अपनापन	I. आरी
B. पूजारी	II. क
C. बैठक	III. पन
D. लगान	IV. न

निम्नलिखित विकल्पों में से सही उत्तर का चयन कीजिए :

1. A-I, B-II, C-III, D-IV
2. A-III, B-I, C-II, D-IV
3. A-III, B-I, C-IV, D-II
4. A-II, B-III, C-IV, D-I

Options :

485584106193. 1
485584106194. 2
485584106195. 3
485584106196. 4

Question Number : 90 Question Id : 48558426550 Question Type : MCQ Option Shuffling : No Is Question Mandatory : No Calculator : None Response Time : N.A Think Time : N.A Minimum Instruction Time : 0

Correct Marks : 5 Wrong Marks : 1

Question Key Details :

Key	Value
Comprehension	MCQ

गुणवाचक विशेषण का सही उदाहरण है -

1. राम रोज दौड़ता है।
2. राम बहुत अधिक पतला है।
3. राम खेलने में अच्छा है।
4. राम खाना खाता है।

Options :

485584106197. 1
485584106198. 2
485584106199. 3
485584106200. 4

Question Number : 91 Question Id : 48558426551 Question Type : MCQ Option Shuffling : No Is Question Mandatory : No Calculator : None Response Time : N.A Think Time : N.A Minimum Instruction Time : 0

Correct Marks : 5 Wrong Marks : 1

Question Key Details :

Key	Value
Comprehension	MCQ

'विशेष्य' कहलाता है -

1. जिसकी विशेषता बताई जाए।
2. जो संज्ञा या सर्वनाम की विशेषता बताए।
3. जो क्रिया की विशेषता बताए।
4. जो पदक्रम में सबसे अंत में हो।

Options :

- 485584106201. 1
- 485584106202. 2
- 485584106203. 3
- 485584106204. 4

Question Number : 92 Question Id : 48558426552 Question Type : MCQ Option Shuffling : No Is Question Mandatory : No Calculator : None Response Time : N.A Think Time : N.A Minimum Instruction Time : 0

Correct Marks : 5 Wrong Marks : 1

Question Key Details :

Key	Value
Comprehension	MCQ

'लड़कियों को बाज़ार जाना है' इस वाक्य में किस कारक का प्रयोग हुआ है?

1. कर्ता कारक
2. संबोधन कारक
3. कर्म कारक
4. संप्रदान कारक

Options :

- 485584106205. 1
- 485584106206. 2
- 485584106207. 3
- 485584106208. 4

Question Number : 93 Question Id : 48558426553 Question Type : MCQ Option Shuffling : No Is Question Mandatory : No Calculator : None Response Time : N.A Think Time : N.A Minimum Instruction Time : 0

Correct Marks : 5 Wrong Marks : 1

Question Key Details :

Key	Value
Comprehension	MCQ

हिन्दी में कारकों की संख्या मानी जाती है -

1. सात
2. आठ
3. चार
4. दो

Options :

- 485584106209. 1
- 485584106210. 2
- 485584106211. 3
- 485584106212. 4

Question Number : 94 Question Id : 48558426554 Question Type : MCQ Option Shuffling : No Is Question Mandatory : No Calculator : None
Response Time : N.A Think Time : N.A Minimum Instruction Time : 0

Correct Marks : 5 Wrong Marks : 1

Question Key Details :

Key	Value
Comprehension	MCQ

'चांदी घिसती' है में कौन सा क्रिया रूप प्रयुक्त है?

1. सकर्मक क्रिया
2. अकर्मक क्रिया
3. सकर्मक-अकर्मक दोनों
4. संयुक्त क्रिया

Options :

485584106213. 1

485584106214. 2

485584106215. 3

485584106216. 4

Question Number : 95 Question Id : 48558426555 Question Type : MCQ Option Shuffling : No Is Question Mandatory : No Calculator : None
Response Time : N.A Think Time : N.A Minimum Instruction Time : 0

Correct Marks : 5 Wrong Marks : 1

Question Key Details :

Key	Value
Comprehension	MCQ

विस्मयबोधक अव्यय को वाक्य में चिह्नित करें:

'वाह! इतना सुंदर दृश्य'

1. वाह!
2. इतना
3. सुंदर
4. दृश्य

Options :

485584106217. 1

485584106218. 2

485584106219. 3

485584106220. 4

Question Number : 96 Question Id : 48558426556 Question Type : MCQ Option Shuffling : No Is Question Mandatory : No Calculator : None
Response Time : N.A Think Time : N.A Minimum Instruction Time : 0

Correct Marks : 5 Wrong Marks : 1

Question Key Details :

Key	Value
Comprehension	MCQ

सूची I का सूची II से मिलान कीजिए

सूची I		सूची II	
A.	गुण संधि	I.	गायक
B.	अयादि संधि	II.	स्वेच्छा
C.	स्वर संधि	III.	स्वागत
D.	यण संधि	IV.	अधीश्वर

निम्नलिखित विकल्पों में से सही उत्तर का चयन कीजिए :

1. A-II, B-I, C-IV, D-III
2. A-III, B-II, C-IV, D-I
3. A-IV, B-I, C-III, D-II
4. A-II, B-IV, C-III, D-I

Options :

485584106221. 1
485584106222. 2
485584106223. 3
485584106224. 4

Question Number : 97 Question Id : 48558426557 Question Type : MCQ Option Shuffling : No Is Question Mandatory : No Calculator : None Response Time : N.A Think Time : N.A Minimum Instruction Time : 0

Correct Marks : 5 Wrong Marks : 1

Question Key Details :

Key	Value
Comprehension	MCQ

विद्यालय का संधि-विच्छेद क्या है?

- A. विद्या + लय
- B. विद् + आलय
- C. विद्या + आलय
- D. वि + दया + आलय

नीचे दिए गए विकल्पों में से **सही उत्तर** का चयन कीजिए:

1. केवल D
2. केवल C
3. केवल B
4. केवल A

Options :

485584106225. 1
485584106226. 2
485584106227. 3
485584106228. 4

Question Number : 98 Question Id : 48558426558 Question Type : MCQ Option Shuffling : No Is Question Mandatory : No Calculator : None Response Time : N.A Think Time : N.A Minimum Instruction Time : 0

Correct Marks : 5 Wrong Marks : 1

Question Key Details :

Key	Value
Comprehension	MCQ

चौपाई के प्रत्येक चरण में कितनी मात्राएँ होती हैं?

1. 12
2. 13
3. 16
4. 5

Options :

485584106229. 1
485584106230. 2
485584106231. 3
485584106232. 4

Question Number : 99 Question Id : 48558426559 Question Type : MCQ Option Shuffling : No Is Question Mandatory : No Calculator : None Response Time : N.A Think Time : N.A Minimum Instruction Time : 0

Correct Marks : 5 Wrong Marks : 1

Question Key Details :

Key	Value
Comprehension	MCQ

'पाँच मुखों का समूह' - में कौन-सा समास है?

- A. कर्मधारय
- B. बहुव्रीहि
- C. द्विगु
- D. द्वंद्व
- E. अव्ययीभाव

नीचे दिए गए विकल्पों में से **सही उत्तर** का चयन कीजिए:

1. केवल A, B, C
2. केवल C
3. केवल B, C, D
4. केवल D, C, A, E

Options :

485584106233. 1
485584106234. 2
485584106235. 3
485584106236. 4

Question Number : 100 Question Id : 48558426560 Question Type : MCQ Option Shuffling : No Is Question Mandatory : No Calculator : None Response Time : N.A Think Time : N.A Minimum Instruction Time : 0

Correct Marks : 5 Wrong Marks : 1

Question Key Details :

Key	Value
Comprehension	MCQ

'दशानन' में कौन सा समास है?

- A. अव्ययीभाव
- B. तत्पुरुष
- C. द्वन्द्व
- D. बहुव्रीहि

नीचे दिए गए विकल्पों में से **सही उत्तर** का चयन कीजिए:

1. केवल A
2. केवल B
3. केवल C
4. केवल D

Options :

- 485584106237. 1
- 485584106238. 2
- 485584106239. 3
- 485584106240. 4

Geography

Group Number :	3
Group Id :	485584604
Group Maximum Duration :	45
Group Minimum Duration :	45
Show Attended Group? :	No
Edit Attended Group? :	No
Break time :	0
Group Marks :	200
Is this Group for Examiner? :	No
Examiner permission :	Cant View
Show Progress Bar? :	No

Geography

Section Id :	485584692
Section Number :	1
Section type :	Online
Mandatory or Optional :	Mandatory
Number of Questions :	50
Number of Questions to be attempted :	40
Section Marks :	200
Enable Mark as Answered Mark for Review and Clear Response :	Yes
Maximum Instruction Time :	0
Sub-Section Number :	1
Sub-Section Id :	4855841970
Question Shuffling Allowed :	Yes
Is Section Default? :	null

Question Number : 101 Question Id : 48558427271 Question Type : MCQ Option Shuffling : No Is Question Mandatory : No Calculator : None
Response Time : N.A Think Time : N.A Minimum Instruction Time : 0

Correct Marks : 5 Wrong Marks : 1

Question Key Details :

Key	Value
Comprehension	MCQ

Which one of the following is not among the four pillars of Human Development?

1. Sustainability
2. Capability
3. Productivity
4. Empowerment

Options :

485584109081. 1
485584109082. 2
485584109083. 3
485584109084. 4

Question Number : 101 Question Id : 48558427271 Question Type : MCQ Option Shuffling : No Is Question Mandatory : No Calculator : None Response Time : N.A Think Time : N.A Minimum Instruction Time : 0

Correct Marks : 5 Wrong Marks : 1

Question Key Details :

Key	Value
Comprehension	MCQ

निम्नलिखित में से कौन सा एक मानव विकास के चार स्तम्भों में से नहीं है?

1. सतत पोषणीयता
2. क्षमता
3. उत्पादकता
4. सशक्तिकरण

Options :

485584109081. 1
485584109082. 2
485584109083. 3
485584109084. 4

Question Number : 102 Question Id : 48558427272 Question Type : MCQ Option Shuffling : No Is Question Mandatory : No Calculator : None Response Time : N.A Think Time : N.A Minimum Instruction Time : 0

Correct Marks : 5 Wrong Marks : 1

Question Key Details :

Key	Value
Comprehension	MCQ

The Age Pyramid of Japan has a narrow base and a tapered top showing _____.

1. Low birth rate and Low death rate
2. High birth rate and Low death rate
3. High birth rate and High death rate
4. Low birth rate and High death rate

Options :

485584109085. 1
485584109086. 2
485584109087. 3
485584109088. 4

Question Number : 102 Question Id : 48558427272 Question Type : MCQ Option Shuffling : No Is Question Mandatory : No Calculator : None Response Time : N.A Think Time : N.A Minimum Instruction Time : 0

Correct Marks : 5 Wrong Marks : 1

Question Key Details :

Key	Value
Comprehension	MCQ

जापान के आयु पिरामिड का संकीर्ण आधार और शृङ्गाकार शीर्ष दर्शाता है-----

1. निम्न जन्म दर और निम्न मृत्यु दर
2. उच्च जन्म दर और निम्न मृत्यु दर
3. उच्च जन्म दर और उच्च मृत्यु दर
4. निम्न जन्म दर और उच्च मृत्यु दर?

Options :

485584109085. 1
485584109086. 2
485584109087. 3
485584109088. 4

Question Number : 103 Question Id : 48558427273 Question Type : MCQ Option Shuffling : No Is Question Mandatory : No Calculator : None
Response Time : N.A Think Time : N.A Minimum Instruction Time : 0

Correct Marks : 5 Wrong Marks : 1

Question Key Details :

Key	Value
Comprehension	MCQ

The population increase by difference between births and deaths in a particular region between two points of time is called:

1. Actual growth of Population
2. Ageing of Population
3. Negative Growth of Population
4. Natural Growth of Population

Options :

485584109089. 1
485584109090. 2
485584109091. 3
485584109092. 4

Question Number : 103 Question Id : 48558427273 Question Type : MCQ Option Shuffling : No Is Question Mandatory : No Calculator : None
Response Time : N.A Think Time : N.A Minimum Instruction Time : 0

Correct Marks : 5 Wrong Marks : 1

Question Key Details :

Key	Value
Comprehension	MCQ

दो समय बिन्दुओं के बीच एक क्षेत्र विशेष में जन्म और मृत्यु के अंतर से बढ़ने वाली जनसंख्या को कहा जाता है:

1. जनसंख्या की वास्तविक वृद्धि
2. जनसंख्या की उम्रवृद्धि
3. जनसंख्या की ऋणात्मक वृद्धि
4. जनसंख्या की प्राकृतिक वृद्धि

Options :

485584109089. 1
485584109090. 2

485584109091. 3
485584109092. 4

Question Number : 104 Question Id : 48558427274 Question Type : MCQ Option Shuffling : No Is Question Mandatory : No Calculator : None
Response Time : N.A Think Time : N.A Minimum Instruction Time : 0

Correct Marks : 5 Wrong Marks : 1

Question Key Details :

Key	Value
Comprehension	MCQ

When migrants move out of a place, the process is called-

1. Immigration
2. Emigration
3. Urban migration
4. Rural migration

Options :

485584109093. 1
485584109094. 2
485584109095. 3
485584109096. 4

Question Number : 104 Question Id : 48558427274 Question Type : MCQ Option Shuffling : No Is Question Mandatory : No Calculator : None
Response Time : N.A Think Time : N.A Minimum Instruction Time : 0

Correct Marks : 5 Wrong Marks : 1

Question Key Details :

Key	Value
Comprehension	MCQ

प्रवासी जो एक स्थान से बाहर चले जाते हैं, यह प्रक्रिया कहलाती है:

1. आप्रवास
2. उत्प्रवास
3. शहरी प्रवास
4. ग्रामीण प्रवास

Options :

485584109093. 1
485584109094. 2
485584109095. 3
485584109096. 4

Question Number : 105 Question Id : 48558427275 Question Type : MCQ Option Shuffling : No Is Question Mandatory : No Calculator : None
Response Time : N.A Think Time : N.A Minimum Instruction Time : 0

Correct Marks : 5 Wrong Marks : 1

Question Key Details :

Key	Value
Comprehension	MCQ

Since when United Nations Development Programme (UNDP) has been publishing Human Development Report (HDR)?

1. 1970
2. 1980
3. 1990
4. 2000

Options :

485584109097. 1
485584109098. 2
485584109099. 3
485584109100. 4

Question Number : 105 Question Id : 48558427275 Question Type : MCQ Option Shuffling : No Is Question Mandatory : No Calculator : None Response Time : N.A Think Time : N.A Minimum Instruction Time : 0

Correct Marks : 5 Wrong Marks : 1

Question Key Details :

Key	Value
Comprehension	MCQ

संयुक्त राष्ट्र विकास कार्यक्रम कब से मानव विकास रिपोर्ट (HDR) प्रकाशित कर रहा है?

1. 1970
2. 1980
3. 1990
4. 2000

Options :

485584109097. 1
485584109098. 2
485584109099. 3
485584109100. 4

Question Number : 106 Question Id : 48558427276 Question Type : MCQ Option Shuffling : No Is Question Mandatory : No Calculator : None Response Time : N.A Think Time : N.A Minimum Instruction Time : 0

Correct Marks : 5 Wrong Marks : 1

Question Key Details :

Key	Value
Comprehension	MCQ

'Beti Bachao Beti Padhao' Programme was introduced by the Government of India to address the issue of _____

1. Decline in female literacy rate
2. Crime against women
3. Decline in Child Sex Ratio
4. Poverty and social pollution

Options :

485584109101. 1
485584109102. 2
485584109103. 3
485584109104. 4

Question Number : 106 Question Id : 48558427276 Question Type : MCQ Option Shuffling : No Is Question Mandatory : No Calculator : None Response Time : N.A Think Time : N.A Minimum Instruction Time : 0

Correct Marks : 5 Wrong Marks : 1

Question Key Details :

Key	Value
Comprehension	MCQ

भारत सरकार द्वारा 'बेटी बचाओ बेटी पढ़ाओ' कार्यक्रम _____ के विषय के संज्ञान में प्रारम्भ किया गया था।

1. महिला साक्षरता दर में गिरावट
2. महिलाओं के प्रति अपराध
3. बाल लिंग अनुपात में गिरावट
4. गरीबी तथा सामाजिक प्रदूषण

Options :

485584109101. 1
485584109102. 2
485584109103. 3
485584109104. 4

Question Number : 107 Question Id : 48558427277 Question Type : MCQ Option Shuffling : No Is Question Mandatory : No Calculator : None
Response Time : N.A Think Time : N.A Minimum Instruction Time : 0

Correct Marks : 5 Wrong Marks : 1

Question Key Details :

Key	Value
Comprehension	MCQ

Which of the following is not a heavy metal?

1. Lead
2. Arsenic
3. Manganese
4. Magnesium

Options :

485584109105. 1
485584109106. 2
485584109107. 3
485584109108. 4

Question Number : 107 Question Id : 48558427277 Question Type : MCQ Option Shuffling : No Is Question Mandatory : No Calculator : None
Response Time : N.A Think Time : N.A Minimum Instruction Time : 0

Correct Marks : 5 Wrong Marks : 1

Question Key Details :

Key	Value
Comprehension	MCQ

निम्नलिखित में से कौन सी एक भारी धातु नहीं है?

1. सीसा
2. संखिया
3. मैंगनीज
4. मैग्नीशियम

Options :

485584109105. 1
485584109106. 2
485584109107. 3

Question Number : 108 Question Id : 48558427278 Question Type : MCQ Option Shuffling : No Is Question Mandatory : No Calculator : None Response Time : N.A Think Time : N.A Minimum Instruction Time : 0

Correct Marks : 5 Wrong Marks : 1

Question Key Details :

Key	Value
Comprehension	MCQ

Most of the industrial wastes are disposed off in which of the following?

1. Rivers and Lakes
2. Landfill sites
3. Effluent treatment facilities
4. Groundwater

Options :

485584109109. 1
485584109110. 2
485584109111. 3
485584109112. 4

Question Number : 108 Question Id : 48558427278 Question Type : MCQ Option Shuffling : No Is Question Mandatory : No Calculator : None Response Time : N.A Think Time : N.A Minimum Instruction Time : 0

Correct Marks : 5 Wrong Marks : 1

Question Key Details :

Key	Value
Comprehension	MCQ

औद्योगिक कचरे का अधिकांश भाग निम्नलिखित में से किसमें विसर्जित किया जाता है?

1. नदियों और झीलों
2. लैंडफिल स्थलों
3. अपवहित जल उपचारण सुविधाएं
4. भूमि जल

Options :

485584109109. 1
485584109110. 2
485584109111. 3
485584109112. 4

Question Number : 109 Question Id : 48558427279 Question Type : MCQ Option Shuffling : No Is Question Mandatory : No Calculator : None Response Time : N.A Think Time : N.A Minimum Instruction Time : 0

Correct Marks : 5 Wrong Marks : 1

Question Key Details :

Key	Value
Comprehension	MCQ

Which of the following is the most convenient and efficient mode of transporting liquids and gases over long distances?

1. Road transport
2. Oil tanker
3. Airplanes
4. Pipelines

Options :

- 485584109113. 1
- 485584109114. 2
- 485584109115. 3
- 485584109116. 4

Question Number : 109 Question Id : 48558427279 Question Type : MCQ Option Shuffling : No Is Question Mandatory : No Calculator : None Response Time : N.A Think Time : N.A Minimum Instruction Time : 0

Correct Marks : 5 Wrong Marks : 1

Question Key Details :

Key	Value
Comprehension	MCQ

लंबी दूरी तक द्रवों और गैसों को परिवहित करने के लिए निम्न में से कौन सा साधन सर्वाधिक सुविधाजनक एवं दक्ष है?

1. सड़क परिवहन
2. तेल टैंकर
3. वायुयान
4. पाइपलाइनें

Options :

- 485584109113. 1
- 485584109114. 2
- 485584109115. 3
- 485584109116. 4

Question Number : 110 Question Id : 48558427280 Question Type : MCQ Option Shuffling : No Is Question Mandatory : No Calculator : None Response Time : N.A Think Time : N.A Minimum Instruction Time : 0

Correct Marks : 5 Wrong Marks : 1

Question Key Details :

Key	Value
Comprehension	MCQ

Asia's first cross country pipeline was constructed by which of the following?

1. ONGC
2. GAIL
3. OIL
4. IOC

Options :

- 485584109117. 1
- 485584109118. 2
- 485584109119. 3
- 485584109120. 4

Question Number : 110 Question Id : 48558427280 Question Type : MCQ Option Shuffling : No Is Question Mandatory : No Calculator : None Response Time : N.A Think Time : N.A Minimum Instruction Time : 0

Correct Marks : 5 Wrong Marks : 1

Question Key Details :

Key	Value
Comprehension	MCQ

एशिया की पहली देशपारीय पाइपलाइन का निर्माण निम्न में से किसने किया था?

1. ओ. एन. जी. सी
2. जी. ए. आई. एल
3. ओ. आई. एल
4. आई. ओ. सी

Options :

485584109117. 1
485584109118. 2
485584109119. 3
485584109120. 4

Question Number : 111 Question Id : 48558427281 Question Type : MCQ Option Shuffling : No Is Question Mandatory : No Calculator : None Response Time : N.A Think Time : N.A Minimum Instruction Time : 0

Correct Marks : 5 Wrong Marks : 1

Question Key Details :

Key	Value
Comprehension	MCQ

In which of the following forms even solids are converted to transport through pipelines?

1. Liquid
2. Gas
3. Slurry
4. Vapour

Options :

485584109121. 1
485584109122. 2
485584109123. 3
485584109124. 4

Question Number : 111 Question Id : 48558427281 Question Type : MCQ Option Shuffling : No Is Question Mandatory : No Calculator : None Response Time : N.A Think Time : N.A Minimum Instruction Time : 0

Correct Marks : 5 Wrong Marks : 1

Question Key Details :

Key	Value
Comprehension	MCQ

ठोस पदार्थों को भी निम्न में से किस रूप में बदलकर पाइपलाइनों द्वारा परिवहित किया जा सकता है?

1. द्रव
2. गैस
3. घोल
4. वाष्प

Options :

485584109121. 1
485584109122. 2
485584109123. 3
485584109124. 4

Question Number : 112 Question Id : 48558427282 Question Type : MCQ Option Shuffling : No Is Question Mandatory : No Calculator : None Response Time : N.A Think Time : N.A Minimum Instruction Time : 0

Correct Marks : 5 Wrong Marks : 1

Question Key Details :

Key	Value
Comprehension	MCQ

Inland Waterways Authority in India was set up in _____.

1. 1983
2. 1984
3. 1985
4. 1986

Options :

- 485584109125. 1
- 485584109126. 2
- 485584109127. 3
- 485584109128. 4

Question Number : 112 Question Id : 48558427282 Question Type : MCQ Option Shuffling : No Is Question Mandatory : No Calculator : None Response Time : N.A Think Time : N.A Minimum Instruction Time : 0

Correct Marks : 5 Wrong Marks : 1

Question Key Details :

Key	Value
Comprehension	MCQ

भारत में अंतः स्थलीय जलमार्ग प्राधिकरण की स्थापना _____ में की गई थी?

1. 1983
2. 1984
3. 1985
4. 1986

Options :

- 485584109125. 1
- 485584109126. 2
- 485584109127. 3
- 485584109128. 4

Question Number : 113 Question Id : 48558427283 Question Type : MCQ Option Shuffling : No Is Question Mandatory : No Calculator : None Response Time : N.A Think Time : N.A Minimum Instruction Time : 0

Correct Marks : 5 Wrong Marks : 1

Question Key Details :

Key	Value
Comprehension	MCQ

Demography discipline is related with which of the following branch of Geography?

1. Medical Geography
2. Population Geography
3. Social Geography
4. Geography of Tourism

Options :

- 485584109129. 1
- 485584109130. 2

485584109131.3
485584109132.4

Question Number : 113 Question Id : 48558427283 Question Type : MCQ Option Shuffling : No Is Question Mandatory : No Calculator : None
Response Time : N.A Think Time : N.A Minimum Instruction Time : 0

Correct Marks : 5 Wrong Marks : 1

Question Key Details :

Key	Value
Comprehension	MCQ

जनांकिकी अनुशासन भूगोल की निम्न में से किस शाखा से संबंधित है?

1. चिकित्सा भूगोल
2. जनसंख्या भूगोल
3. सामाजिक भूगोल
4. पर्यटन भूगोल

Options :

485584109129.1
485584109130.2
485584109131.3
485584109132.4

Question Number : 114 Question Id : 48558427284 Question Type : MCQ Option Shuffling : No Is Question Mandatory : No Calculator : None
Response Time : N.A Think Time : N.A Minimum Instruction Time : 0

Correct Marks : 5 Wrong Marks : 1

Question Key Details :

Key	Value
Comprehension	MCQ

'Nature provides opportunities and human being make use of these and slowly nature gets humanised', scholars termed this as which of the following?

1. Environmental Determinism
2. Post-modernism
3. Possibilism
4. Neo-determinism

Options :

485584109133.1
485584109134.2
485584109135.3
485584109136.4

Question Number : 114 Question Id : 48558427284 Question Type : MCQ Option Shuffling : No Is Question Mandatory : No Calculator : None
Response Time : N.A Think Time : N.A Minimum Instruction Time : 0

Correct Marks : 5 Wrong Marks : 1

Question Key Details :

Key	Value
Comprehension	MCQ

'प्रकृति अवसर प्रदान करती है और मानव उसका उपयोग करता है तथा धीरे धीरे प्रकृति का मानवीकरण हो जाता है', विद्वानों ने निम्न में से किस शब्द का इसके लिए प्रयोग किया है?

1. पर्यावरण नियतिवाद
2. उत्तर-आधुनिकतावाद
3. संभववाद
4. नव-नियतिवाद

Options :

485584109133. 1
485584109134. 2
485584109135. 3
485584109136. 4

Question Number : 115 Question Id : 48558427285 Question Type : MCQ Option Shuffling : No Is Question Mandatory : No Calculator : None Response Time : N.A Think Time : N.A Minimum Instruction Time : 0

Correct Marks : 5 Wrong Marks : 1

Question Key Details :

Key	Value
Comprehension	MCQ

Trans-Canadian Railway line was constructed in which of the following years?

1. 1886
2. 1825
3. 1853
4. 1869

Options :

485584109137. 1
485584109138. 2
485584109139. 3
485584109140. 4

Question Number : 115 Question Id : 48558427285 Question Type : MCQ Option Shuffling : No Is Question Mandatory : No Calculator : None Response Time : N.A Think Time : N.A Minimum Instruction Time : 0

Correct Marks : 5 Wrong Marks : 1

Question Key Details :

Key	Value
Comprehension	MCQ

निम्नलिखित में से किस वर्ष में पार-कैनेडियन रेलमार्ग का निर्माण हुआ था?

1. 1886
2. 1825
3. 1853
4. 1869

Options :

485584109137. 1
485584109138. 2
485584109139. 3
485584109140. 4

Question Number : 116 Question Id : 48558427286 Question Type : MCQ Option Shuffling : No Is Question Mandatory : No Calculator : None Response Time : N.A Think Time : N.A Minimum Instruction Time : 0

Correct Marks : 5 Wrong Marks : 1

Question Key Details :

Key	Value
Comprehension	MCQ

In which one of the following south American states rail network is most dense?

1. Venezuela
2. Ecuador
3. Bolivia
4. Argentina

Options :

485584109141. 1
485584109142. 2
485584109143. 3
485584109144. 4

Question Number : 116 Question Id : 48558427286 Question Type : MCQ Option Shuffling : No Is Question Mandatory : No Calculator : None Response Time : N.A Think Time : N.A Minimum Instruction Time : 0

Correct Marks : 5 Wrong Marks : 1

Question Key Details :

Key	Value
Comprehension	MCQ

निम्नलिखित में से किस दक्षिण अमेरिकी देश में सर्वाधिक सघन रेल नेटवर्क पाया जाता है?

1. वेनेजुएला
2. इक्वाडोर
3. बोलीविया
4. अर्जेंटीना

Options :

485584109141. 1
485584109142. 2
485584109143. 3
485584109144. 4

Question Number : 117 Question Id : 48558427287 Question Type : MCQ Option Shuffling : No Is Question Mandatory : No Calculator : None Response Time : N.A Think Time : N.A Minimum Instruction Time : 0

Correct Marks : 5 Wrong Marks : 1

Question Key Details :

Key	Value
Comprehension	MCQ

In India land-use records are maintained by _____.

1. Government of India
2. Local Bodies
3. Survey of India
4. Land-Revenue Department

Options :

485584109145. 1

485584109146. 2
485584109147. 3
485584109148. 4

Question Number : 117 Question Id : 48558427287 Question Type : MCQ Option Shuffling : No Is Question Mandatory : No Calculator : None
Response Time : N.A Think Time : N.A Minimum Instruction Time : 0

Correct Marks : 5 Wrong Marks : 1

Question Key Details :

Key	Value
Comprehension	MCQ

भारत में भू-उपयोग अभिलेखों को _____ द्वारा अनुरक्षित किया जाता है।

1. भारत सरकार
2. स्थानीय निकायों
3. भारतीय सर्वेक्षण विभाग
4. भू- राजस्व विभाग

Options :

485584109145. 1
485584109146. 2
485584109147. 3
485584109148. 4

Question Number : 118 Question Id : 48558427288 Question Type : MCQ Option Shuffling : No Is Question Mandatory : No Calculator : None
Response Time : N.A Think Time : N.A Minimum Instruction Time : 0

Correct Marks : 5 Wrong Marks : 1

Question Key Details :

Key	Value
Comprehension	MCQ

Neyveli coal field is located in _____ state of India.

1. Andhra Pradesh
2. Tamil Nadu
3. Kerala
4. Karnataka

Options :

485584109149. 1
485584109150. 2
485584109151. 3
485584109152. 4

Question Number : 118 Question Id : 48558427288 Question Type : MCQ Option Shuffling : No Is Question Mandatory : No Calculator : None
Response Time : N.A Think Time : N.A Minimum Instruction Time : 0

Correct Marks : 5 Wrong Marks : 1

Question Key Details :

Key	Value
Comprehension	MCQ

नेवैली कोयला क्षेत्र भारत के _____ राज्य में स्थित है।

1. आंध्र प्रदेश
2. तमिलनाडु
3. केरल
4. कर्नाटक

Options :

485584109149. 1
485584109150. 2
485584109151. 3
485584109152. 4

Question Number : 119 Question Id : 48558427289 Question Type : MCQ Option Shuffling : No Is Question Mandatory : No Calculator : None Response Time : N.A Think Time : N.A Minimum Instruction Time : 0

Correct Marks : 5 Wrong Marks : 1

Question Key Details :

Key	Value
Comprehension	MCQ

Dharwar, which is famous for manganese mines is located in _____ state.

1. Andhra Pradesh
2. Telangana
3. Maharashtra
4. Karnataka

Options :

485584109153. 1
485584109154. 2
485584109155. 3
485584109156. 4

Question Number : 119 Question Id : 48558427289 Question Type : MCQ Option Shuffling : No Is Question Mandatory : No Calculator : None Response Time : N.A Think Time : N.A Minimum Instruction Time : 0

Correct Marks : 5 Wrong Marks : 1

Question Key Details :

Key	Value
Comprehension	MCQ

धारवाड़, जो मैंगनीज की खदानों के लिए प्रसिद्ध है, _____ राज्य में स्थित है।

1. आंध्र प्रदेश
2. तेलंगाना
3. महाराष्ट्र
4. कर्नाटक

Options :

485584109153. 1
485584109154. 2
485584109155. 3
485584109156. 4

Question Number : 120 Question Id : 48558427290 Question Type : MCQ Option Shuffling : No Is Question Mandatory : No Calculator : None Response Time : N.A Think Time : N.A Minimum Instruction Time : 0

Correct Marks : 5 Wrong Marks : 1

Question Key Details :

Key	Value
Comprehension	MCQ

Jal-Kranti Abhiyan was launched by Government of India in which year?

1. 2014-15
2. 2015-16
3. 2016-17
4. 2017-18

Options :

485584109157. 1
485584109158. 2
485584109159. 3
485584109160. 4

Question Number : 120 Question Id : 48558427290 Question Type : MCQ Option Shuffling : No Is Question Mandatory : No Calculator : None Response Time : N.A Think Time : N.A Minimum Instruction Time : 0

Correct Marks : 5 Wrong Marks : 1

Question Key Details :

Key	Value
Comprehension	MCQ

किस वर्ष में भारत सरकार द्वारा जल-क्रांति अभियान का शुभारंभ किया गया था ?

1. 2014-15
2. 2015-16
3. 2016-17
4. 2017-18

Options :

485584109157. 1
485584109158. 2
485584109159. 3
485584109160. 4

Question Number : 121 Question Id : 48558427291 Question Type : MCQ Option Shuffling : No Is Question Mandatory : No Calculator : None Response Time : N.A Think Time : N.A Minimum Instruction Time : 0

Correct Marks : 5 Wrong Marks : 1

Question Key Details :

Key	Value
Comprehension	MCQ

India's National Water Policy was introduced in which year?

1. 2000
2. 2002
3. 2004
4. 2006

Options :

485584109161. 1
485584109162. 2

485584109163. 3
485584109164. 4

Question Number : 121 Question Id : 48558427291 Question Type : MCQ Option Shuffling : No Is Question Mandatory : No Calculator : None
Response Time : N.A Think Time : N.A Minimum Instruction Time : 0

Correct Marks : 5 Wrong Marks : 1

Question Key Details :

Key	Value
Comprehension	MCQ

किस वर्ष में भारत की राष्ट्रीय जल नीति को लागू किया गया था?

1. 2000
2. 2002
3. 2004
4. 2006

Options :

485584109161. 1
485584109162. 2
485584109163. 3
485584109164. 4

Question Number : 122 Question Id : 48558427292 Question Type : MCQ Option Shuffling : No Is Question Mandatory : No Calculator : None
Response Time : N.A Think Time : N.A Minimum Instruction Time : 0

Correct Marks : 5 Wrong Marks : 1

Question Key Details :

Key	Value
Comprehension	MCQ

Hamleted settlements are found in which of the following areas?

1. Lower Valleys of Himalayas
2. Gujarat Plains
3. Bundelkhand Region
4. Rajasthan

Options :

485584109165. 1
485584109166. 2
485584109167. 3
485584109168. 4

Question Number : 122 Question Id : 48558427292 Question Type : MCQ Option Shuffling : No Is Question Mandatory : No Calculator : None
Response Time : N.A Think Time : N.A Minimum Instruction Time : 0

Correct Marks : 5 Wrong Marks : 1

Question Key Details :

Key	Value
Comprehension	MCQ

निम्नलिखित में से किस क्षेत्र में पल्ली बस्तियाँ पाई जाती है?

1. हिमालय की निचली घाटियाँ
2. गुजरात के मैदानों
3. बुंदेलखंड क्षेत्र
4. राजस्थान

Options :

485584109165. 1
485584109166. 2
485584109167. 3
485584109168. 4

Question Number : 123 Question Id : 48558427293 Question Type : MCQ Option Shuffling : No Is Question Mandatory : No Calculator : None Response Time : N.A Think Time : N.A Minimum Instruction Time : 0

Correct Marks : 5 Wrong Marks : 1

Question Key Details :

Key	Value
Comprehension	MCQ

Which one among the followings is NOT a unit of Hamleted settlements?

1. Panna
2. Cantonment Area
3. Nagla
4. Palli

Options :

485584109169. 1
485584109170. 2
485584109171. 3
485584109172. 4

Question Number : 123 Question Id : 48558427293 Question Type : MCQ Option Shuffling : No Is Question Mandatory : No Calculator : None Response Time : N.A Think Time : N.A Minimum Instruction Time : 0

Correct Marks : 5 Wrong Marks : 1

Question Key Details :

Key	Value
Comprehension	MCQ

निम्नलिखित में से कौन सी पल्ली बस्ती की ईकाई नहीं है?

1. पान्ना
2. छावनी क्षेत्र
3. नगला
4. पाली

Options :

485584109169. 1
485584109170. 2
485584109171. 3
485584109172. 4

Question Number : 124 Question Id : 48558427294 Question Type : MCQ Option Shuffling : No Is Question Mandatory : No Calculator : None Response Time : N.A Think Time : N.A Minimum Instruction Time : 0

Correct Marks : 5 Wrong Marks : 1

Question Key Details :

Key	Value
Comprehension	MCQ

Dispersed settlements are NOT found in which one of the following states?

1. Meghalaya
2. Kerala
3. Gujarat
4. Uttarakhand

Options :

485584109173. 1
485584109174. 2
485584109175. 3
485584109176. 4

Question Number : 124 Question Id : 48558427294 Question Type : MCQ Option Shuffling : No Is Question Mandatory : No Calculator : None Response Time : N.A Think Time : N.A Minimum Instruction Time : 0

Correct Marks : 5 Wrong Marks : 1

Question Key Details :

Key	Value
Comprehension	MCQ

निम्नलिखित में से किस राज्य में परिक्षिप्त बस्तियाँ नहीं पाई जाती हैं?

1. मेघालय
2. केरल
3. गुजरात
4. उत्तराखंड

Options :

485584109173. 1
485584109174. 2
485584109175. 3
485584109176. 4

Question Number : 125 Question Id : 48558427295 Question Type : MCQ Option Shuffling : No Is Question Mandatory : No Calculator : None Response Time : N.A Think Time : N.A Minimum Instruction Time : 0

Correct Marks : 5 Wrong Marks : 1

Question Key Details :

Key	Value
Comprehension	MCQ

Which of the following term is used for cities together with their suburbs and a population of more than 10 million?

1. Megalopolis
2. Conurbation
3. City
4. Million City

Options :

485584109177. 1

485584109178. 2
485584109179. 3
485584109180. 4

Question Number : 125 Question Id : 48558427295 Question Type : MCQ Option Shuffling : No Is Question Mandatory : No Calculator : None Response Time : N.A Think Time : N.A Minimum Instruction Time : 0

Correct Marks : 5 Wrong Marks : 1

Question Key Details :

Key	Value
Comprehension	MCQ

निम्नलिखित में से कौन सी शब्दावली नगरों, उनके उप-नगरों सहित तथा 10 मिलियन से अधिक जनसंख्या के लिए प्रयुक्त की जाती है।

1. मैगालोपोलिस (विश्वनगरी)
2. सन्नगर
3. शहर
4. मिलियन सिटी

Options :

485584109177. 1
485584109178. 2
485584109179. 3
485584109180. 4

Question Number : 126 Question Id : 48558427296 Question Type : MCQ Option Shuffling : No Is Question Mandatory : No Calculator : None Response Time : N.A Think Time : N.A Minimum Instruction Time : 0

Correct Marks : 5 Wrong Marks : 1

Question Key Details :

Key	Value
Comprehension	MCQ

Arrange the following stations on Trans-Siberian railway route from west to east direction:

- A. Omsk
- B. Moscow
- C. Tyumen
- D. Chita

Choose the correct answer from the options given below:

1. B, C, A, D
2. A, B, D, C
3. D, C, A, B
4. A, B, C, D

Options :

485584109181. 1
485584109182. 2
485584109183. 3
485584109184. 4

Question Number : 126 Question Id : 48558427296 Question Type : MCQ Option Shuffling : No Is Question Mandatory : No Calculator : None Response Time : N.A Think Time : N.A Minimum Instruction Time : 0

Correct Marks : 5 Wrong Marks : 1

Question Key Details :

Key	Value
Comprehension	MCQ

पार-साईबेरियन रेलमार्ग पर स्थित निम्न नगरों को पश्चिम से पूर्व के दिशा क्रम में व्यवस्थित कीजिए।

- A. ओम्स्क
- B. मास्को
- C. ट्यूमिन
- D. चिता

नीचे दिए गए विकल्पों में से सही उत्तर का चयन कीजिए:

- 1. B, C, A, D
- 2. A, B, D, C
- 3. D, C, A, B
- 4. A, B, C, D

Options :

- 485584109181. 1
- 485584109182. 2
- 485584109183. 3
- 485584109184. 4

Question Number : 127 Question Id : 48558427297 Question Type : MCQ Option Shuffling : No Is Question Mandatory : No Calculator : None Response Time : N.A Think Time : N.A Minimum Instruction Time : 0

Correct Marks : 5 Wrong Marks : 1

Question Key Details :

Key	Value
Comprehension	MCQ

Arrange the following approaches of Human Geography in chronological order.

- A. Radical school
- B. Post-modernism
- C. Exploration and description
- D. Areal Differentiation

Choose the correct answer from the options given below:

- 1. D, A, C, B
- 2. A, B, C, D
- 3. C, D, A, B
- 4. B, C, D, A

Options :

- 485584109185. 1
- 485584109186. 2
- 485584109187. 3
- 485584109188. 4

Question Number : 127 Question Id : 48558427297 Question Type : MCQ Option Shuffling : No Is Question Mandatory : No Calculator : None Response Time : N.A Think Time : N.A Minimum Instruction Time : 0

Correct Marks : 5 Wrong Marks : 1

Question Key Details :

Key	Value
Comprehension	MCQ

मानव भूगोल की निम्नलिखित विचारधाराओं को कालक्रमानुसार व्यवस्थित कीजिए।

- A. आमूलवादी विचारधारा
- B. उत्तर आधुनिकवाद
- C. अन्वेषण और विवरण
- D. क्षेत्रीय विभेदन

नीचे दिए गए विकल्पों में से सही उत्तर का चयन कीजिए:

- 1. D, A, C, B
- 2. A, B, C, D
- 3. C, D, A, B
- 4. B, C, D, A

Options :

- 485584109185. 1
- 485584109186. 2
- 485584109187. 3
- 485584109188. 4

Question Number : 128 Question Id : 48558427298 Question Type : MCQ Option Shuffling : No Is Question Mandatory : No Calculator : None Response Time : N.A Think Time : N.A Minimum Instruction Time : 0

Correct Marks : 5 Wrong Marks : 1

Question Key Details :

Key	Value
Comprehension	MCQ

Arrange the following mega cities in descending order on the basis of total population (2016):

- A. Shanghai
- B. Tokyo
- C. Mumbai
- D. Delhi

Choose the correct answer from the options given below:

- 1. A, B, C, D
- 2. B, C, A, D
- 3. B, D, A, C
- 4. A, C, B, D

Options :

- 485584109189. 1
- 485584109190. 2
- 485584109191. 3
- 485584109192. 4

Question Number : 128 Question Id : 48558427298 Question Type : MCQ Option Shuffling : No Is Question Mandatory : No Calculator : None Response Time : N.A Think Time : N.A Minimum Instruction Time : 0

Correct Marks : 5 Wrong Marks : 1

Question Key Details :

Key	Value
Comprehension	MCQ

कुल जनसंख्या (2016) के आधार पर निम्नलिखित मोगासिटीज को अवरोही क्रम में व्यवस्थित कीजिए।

- A. शंघाई
- B. टोक्यो
- C. मुंबई
- D. दिल्ली

नीचे दिए गए विकल्पों में से सही उत्तर का चयन कीजिए:

- 1. A, B, C, D
- 2. B, C, A, D
- 3. B, D, A, C
- 4. A, C, B, D

Options :

- 485584109189. 1
- 485584109190. 2
- 485584109191. 3
- 485584109192. 4

Question Number : 129 Question Id : 48558427299 Question Type : MCQ Option Shuffling : No Is Question Mandatory : No Calculator : None Response Time : N.A Think Time : N.A Minimum Instruction Time : 0

Correct Marks : 5 Wrong Marks : 1

Question Key Details :

Key	Value
Comprehension	MCQ

Arrange the Major Industrial Regions of India from West to East direction.

- A. Mumbai-Pune Region
- B. Hugli Region
- C. Chotanagpur Region
- D. Delhi-Meerut Region

Choose the correct answer from the options given below:

- 1. A, C, D, B
- 2. B, A, C, D
- 3. A, B, C, D
- 4. A, D, C, B

Options :

- 485584109193. 1
- 485584109194. 2
- 485584109195. 3
- 485584109196. 4

Question Number : 129 Question Id : 48558427299 Question Type : MCQ Option Shuffling : No Is Question Mandatory : No Calculator : None Response Time : N.A Think Time : N.A Minimum Instruction Time : 0

Correct Marks : 5 Wrong Marks : 1

Question Key Details :

Key	Value
Comprehension	MCQ

भारत के प्रमुख औद्योगिक प्रदेशों को पश्चिम से पूर्व दिशा में व्यवस्थित कीजिए।

- A. मुंबई- पुणे प्रदेश
- B. हुगली प्रदेश
- C. छोटानागपुर प्रदेश
- D. दिल्ली- मेरठ प्रदेश

नीचे दिए गए विकल्पों में से सही उत्तर का चयन कीजिए:

- 1. A, C, D, B
- 2. B, A, C, D
- 3. A, B, C, D
- 4. A, D, C, B

Options :

- 485584109193. 1
- 485584109194. 2
- 485584109195. 3
- 485584109196. 4

Question Number : 130 Question Id : 48558427300 Question Type : MCQ Option Shuffling : No Is Question Mandatory : No Calculator : None Response Time : N.A Think Time : N.A Minimum Instruction Time : 0

Correct Marks : 5 Wrong Marks : 1

Question Key Details :

Key	Value
Comprehension	MCQ

Arrange the Software Technology Parks of India from South to North direction.

- A. Bengaluru
- B. Navi Mumbai
- C. Pune
- D. Hyderabad

Choose the correct answer from the options given below:

- 1. A, B, C, D
- 2. A, D, C, B
- 3. D, A, C, B
- 4. D, C, B, A

Options :

- 485584109197. 1
- 485584109198. 2
- 485584109199. 3
- 485584109200. 4

Question Number : 130 Question Id : 48558427300 Question Type : MCQ Option Shuffling : No Is Question Mandatory : No Calculator : None Response Time : N.A Think Time : N.A Minimum Instruction Time : 0

Correct Marks : 5 Wrong Marks : 1

Question Key Details :

Key	Value
Comprehension	MCQ

भारत के सॉफ्टवेयर टेक्नोलॉजी पार्कों को दक्षिण से उत्तर की दिशा में व्यवस्थित कीजिए।

- A. बेंगलुरु
- B. नवी मुंबई
- C. पुणे
- D. हैदराबाद

नीचे दिए गए विकल्पों में से सही उत्तर का चयन कीजिए:

1. A, B, C, D
2. A, D, C, B
3. D, A, C, B
4. D, C, B, A

Options :

- 485584109197. 1
- 485584109198. 2
- 485584109199. 3
- 485584109200. 4

Question Number : 131 Question Id : 48558427301 Question Type : MCQ Option Shuffling : No Is Question Mandatory : No Calculator : None Response Time : N.A Think Time : N.A Minimum Instruction Time : 0

Correct Marks : 5 Wrong Marks : 1

Question Key Details :

Key	Value
Comprehension	MCQ

Match List I with List II

LIST I		LIST II Country	
Lower limit of population size to be called as urban			
A.	1500	I.	India
B.	2500	II.	Colombia
C.	30,000	III.	USA
D.	5000	IV.	Japan

Choose the correct answer from the options given below:

1. A-II, B-III, C-IV, D-I
2. A-I, B-II, C-III, D-IV
3. A-IV, B-III, C-I, D-II
4. A-II, B-I, C-IV, D-III

Options :

- 485584109201. 1
- 485584109202. 2
- 485584109203. 3
- 485584109204. 4

Question Number : 131 Question Id : 48558427301 Question Type : MCQ Option Shuffling : No Is Question Mandatory : No Calculator : None Response Time : N.A Think Time : N.A Minimum Instruction Time : 0

Correct Marks : 5 Wrong Marks : 1

Question Key Details :

Key	Value
Comprehension	MCQ

सूची I का सूची II से मिलान कीजिए

सूची I (नगर कहलाने हेतु जनसंख्या आकार की निम्न सीमा)		सूची II (देश)	
A.	1500	I.	भारत
B.	2500	II.	कोलंबिया
C.	30,000	III.	यू. एस.ए.
D.	5000	IV.	जापान

निम्नलिखित विकल्पों में से सही उत्तर का चयन कीजिए :

1. A-II, B-III, C-IV, D-I
2. A-I, B-II, C-III, D-IV
3. A-IV, B-III, C-I, D-II
4. A-II, B-I, C-IV, D-III

Options :

485584109201. 1
485584109202. 2
485584109203. 3
485584109204. 4

Question Number : 132 Question Id : 48558427302 Question Type : MCQ Option Shuffling : No Is Question Mandatory : No Calculator : None Response Time : N.A Think Time : N.A Minimum Instruction Time : 0

Correct Marks : 5 Wrong Marks : 1

Question Key Details :

Key	Value
Comprehension	MCQ

Match List I with List II

LIST I Sea Routes		LIST II Linking	
A.	Suez Canal	I.	Atlantic Ocean and Pacific Ocean
B.	Rhine waterways	II.	Interior Parts of USA and Gulf of Mexico
C.	Mississippi waterways	III.	Rotterdam and Basel
D.	Panama canal	IV.	Mediterranean Sea and Red Sea

Choose the correct answer from the options given below:

1. A-I, B-IV, C-III, D-II
2. A-IV, B-III, C-II, D-I
3. A-III, B-II, C-IV, D-I
4. A-II, B-I, C-III, D-IV

Options :

485584109205. 1
485584109206. 2
485584109207. 3
485584109208. 4

Question Number : 132 Question Id : 48558427302 Question Type : MCQ Option Shuffling : No Is Question Mandatory : No Calculator : None Response Time : N.A Think Time : N.A Minimum Instruction Time : 0

Correct Marks : 5 Wrong Marks : 1

Question Key Details :

Key	Value
Comprehension	MCQ

सूची I का सूची II से मिलान कीजिए

सूची I (समुद्री मार्ग)		सूची II (जोड़ती है)	
A.	स्वेज नहर	I.	अटलांटिक महासागर और प्रशांत महासागर
B.	राइन जलमार्ग	II.	यू.एस.ए. के आन्तरिक भाग और मैक्सिको की खाड़ी
C.	मिसिसिपी जलमार्ग	III.	रोटरडम और बेसल
D.	पनामा नहर	IV.	भूमध्य सागर और लाल सागर

निम्नलिखित विकल्पों में से सही उत्तर का चयन कीजिए :

1. A-I, B-IV, C-III, D-II
2. A-IV, B-III, C-II, D-I
3. A-III, B-II, C-IV, D-I
4. A-II, B-I, C-III, D-IV

Options :

485584109205. 1
485584109206. 2
485584109207. 3
485584109208. 4

Question Number : 133 Question Id : 48558427303 Question Type : MCQ Option Shuffling : No Is Question Mandatory : No Calculator : None Response Time : N.A Think Time : N.A Minimum Instruction Time : 0

Correct Marks : 5 Wrong Marks : 1

Question Key Details :

Key	Value
Comprehension	MCQ

Match List I with List II

LIST I Organisations		LIST II Head Quarters	
A.	ASEAN	I.	Brussels
B.	WTO	II.	Jakarta
C.	OPEC	III.	Geneva
D.	EU	IV.	Vienna

Choose the correct answer from the options given below:

1. A-II, B-III, C-IV, D-I
2. A-I, B-II, C-III, D-IV
3. A-IV, B-III, C-II, D-I
4. A-III, B-IV, C-I, D-II

Options :

485584109209. 1
485584109210. 2
485584109211. 3
485584109212. 4

Question Number : 133 Question Id : 48558427303 Question Type : MCQ Option Shuffling : No Is Question Mandatory : No Calculator : None Response Time : N.A Think Time : N.A Minimum Instruction Time : 0

Correct Marks : 5 Wrong Marks : 1

Question Key Details :

Key	Value
Comprehension	MCQ

सूची I का सूची II से मिलान कीजिए

सूची I (संगठन)		सूची II (मुख्यालय)	
A.	आसियान	I.	ब्रुसेल्स
B.	डब्ल्यू. टी. ओ	II.	जकार्ता
C.	ओपेक	III.	जिनेवा
D.	ई. यू.	IV.	वियना

निम्नलिखित विकल्पों में से सही उत्तर का चयन कीजिए :

1. A-II, B-III, C-IV, D-I
2. A-I, B-II, C-III, D-IV
3. A-IV, B-III, C-II, D-I
4. A-III, B-IV, C-I, D-II

Options :

485584109209. 1
485584109210. 2
485584109211. 3
485584109212. 4

Question Number : 134 Question Id : 48558427304 Question Type : MCQ Option Shuffling : No Is Question Mandatory : No Calculator : None Response Time : N.A Think Time : N.A Minimum Instruction Time : 0

Correct Marks : 5 Wrong Marks : 1

Question Key Details :

Key	Value
Comprehension	MCQ

Match List I with List II

LIST I Ports		LIST II Locations	
A.	Kandla Port	I.	Zuari Estuary
B.	Paradwip Port	II.	Nhava Sheva
C.	Jawaharlal Nehru Port	III.	Mahanadi delta
D.	Marmagao Port	IV.	Gulf of Kuchchh

Choose the correct answer from the options given below:

1. A-IV, B-III, C-II, D-I
2. A-I, B-III, C-IV, D-II
3. A-II, B-I, C-IV, D-III
4. A-III, B-II, C-I, D-IV

Options :

485584109213. 1
485584109214. 2
485584109215. 3
485584109216. 4

Question Number : 134 Question Id : 48558427304 Question Type : MCQ Option Shuffling : No Is Question Mandatory : No Calculator : None Response Time : N.A Think Time : N.A Minimum Instruction Time : 0

Correct Marks : 5 Wrong Marks : 1

Question Key Details :

Key	Value
-----	-------

सूची I का सूची II से मिलान कीजिए

सूची I (पत्तन)		सूची II (स्थिति)	
A.	कांडला पत्तन	I.	जुआरी नदमुख
B.	पारादीप पत्तन	II.	न्हावा-शेवा
C.	जवाहरलाल नेहरू पत्तन	III.	महानदी डेल्टा
D.	मार्मागाओ पत्तन	IV.	कच्छ की खाड़ी

निम्नलिखित विकल्पों में से सही उत्तर का चयन कीजिए :

1. A-IV, B-III, C-II, D-I
2. A-I, B-III, C-IV, D-II
3. A-II, B-I, C-IV, D-III
4. A-III, B-II, C-I, D-IV

Options :

485584109213. 1
485584109214. 2
485584109215. 3
485584109216. 4

Question Number : 135 Question Id : 48558427305 Question Type : MCQ Option Shuffling : No Is Question Mandatory : No Calculator : None Response Time : N.A Think Time : N.A Minimum Instruction Time : 0

Correct Marks : 5 Wrong Marks : 1

Question Key Details :

Key	Value
Comprehension	MCQ

Match List I with List II

LIST I Railway Zones		LIST II Headquarters	
A.	East Central	I.	Secunderabad
B.	North Central	II.	Jabalpur
C.	South Central	III.	Allahabad
D.	West Central	IV.	Hajipur

Choose the correct answer from the options given below:

1. A-II, B-IV, C-III, D-I
2. A-IV, B-III, C-I, D-II
3. A-IV, B-III, C-II, D-I
4. A-II, B-I, C-IV, D-III

Options :

485584109217. 1
485584109218. 2
485584109219. 3
485584109220. 4

Question Number : 135 Question Id : 48558427305 Question Type : MCQ Option Shuffling : No Is Question Mandatory : No Calculator : None Response Time : N.A Think Time : N.A Minimum Instruction Time : 0

Correct Marks : 5 Wrong Marks : 1

Question Key Details :

Key	Value
Comprehension	MCQ

सूची I का सूची II से मिलान कीजिए

सूची I (रेल मंडल)		सूची II (मुख्यालय)	
A.	ईस्ट सेंट्रल	I.	सिकंदराबाद
B.	नार्थ सेंट्रल	II.	जबलपुर
C.	साउथ सेंट्रल	III.	इलाहाबाद
D.	वेस्ट सेंट्रल	IV.	हाजीपुर

निम्नलिखित विकल्पों में से सही उत्तर का चयन कीजिए :

1. A-II, B-IV, C-III, D-I
2. A-IV, B-III, C-I, D-II
3. A-IV, B-III, C-II, D-I
4. A-II, B-I, C-IV, D-III

Options :

485584109217. 1
485584109218. 2
485584109219. 3
485584109220. 4

Question Number : 136 Question Id : 48558427306 Question Type : MCQ Option Shuffling : No Is Question Mandatory : No Calculator : None Response Time : N.A Think Time : N.A Minimum Instruction Time : 0

Correct Marks : 5 Wrong Marks : 1

Question Key Details :

Key	Value
Comprehension	MCQ

Which of the following are renewable energy resources?

- A. Solar
- B. Hydro-geothermal
- C. Coal
- D. Wind

Choose the correct answer from the options given below:

1. A, B and C only
2. A, B and D only
3. B, C and D only
4. A, C and D only

Options :

485584109221. 1
485584109222. 2
485584109223. 3
485584109224. 4

Question Number : 136 Question Id : 48558427306 Question Type : MCQ Option Shuffling : No Is Question Mandatory : No Calculator : None Response Time : N.A Think Time : N.A Minimum Instruction Time : 0

Correct Marks : 5 Wrong Marks : 1

Question Key Details :

Key	Value
Comprehension	MCQ

निम्नलिखित में से कौन से ऊर्जा के नवीकरणीय संसाधन हैं?

- A. सौर
- B. जलीय- भूतापीय
- C. कोयला
- D. पवन

नीचे दिए गए विकल्पों में से सही उत्तर का चयन कीजिए:

1. केवल A, B और C
2. केवल A, B और D
3. केवल B, C और D
4. केवल A, C और D

Options :

- 485584109221. 1
- 485584109222. 2
- 485584109223. 3
- 485584109224. 4

Question Number : 137 Question Id : 48558427307 Question Type : MCQ Option Shuffling : No Is Question Mandatory : No Calculator : None Response Time : N.A Think Time : N.A Minimum Instruction Time : 0

Correct Marks : 5 Wrong Marks : 1

Question Key Details :

Key	Value
Comprehension	MCQ

Which of the followings are involved in secondary activities?

- A. Iron and steel industry
- B. Making wool
- C. Making jewellery
- D. Wholesale trade

Choose the correct answer from the options given below:

1. A, C and D only
2. B, C and D only
3. A, B and C only
4. A, B and D only

Options :

- 485584109225. 1
- 485584109226. 2
- 485584109227. 3
- 485584109228. 4

Question Number : 137 Question Id : 48558427307 Question Type : MCQ Option Shuffling : No Is Question Mandatory : No Calculator : None Response Time : N.A Think Time : N.A Minimum Instruction Time : 0

Correct Marks : 5 Wrong Marks : 1

Question Key Details :

Key	Value
Comprehension	MCQ

निम्नलिखित में से कौन से द्वितीयक क्रियाकलापों में शामिल हैं ?

- A. लौहा और इस्पात उद्योग
- B. ऊन बनाना
- C. आभूषण बनाना
- D. थोक व्यापार

नीचे दिए गए विकल्पों में से सही उत्तर का चयन कीजिए:

1. केवल A, C और D
2. केवल B, C और D
3. केवल A, B और C
4. केवल A, B और D

Options :

- 485584109225. 1
- 485584109226. 2
- 485584109227. 3
- 485584109228. 4

Question Number : 138 Question Id : 48558427308 Question Type : MCQ Option Shuffling : No Is Question Mandatory : No Calculator : None Response Time : N.A Think Time : N.A Minimum Instruction Time : 0

Correct Marks : 5 Wrong Marks : 1

Question Key Details :

Key	Value
Comprehension	MCQ

Which of the following are included in tertiary activities?

- A. Trade and commerce
- B. Information based
- C. Transport
- D. Communication

Choose the correct answer from the options given below:

1. A, B and C only
2. A, C and D only
3. B, C and D only
4. A, B and D only

Options :

- 485584109229. 1
- 485584109230. 2
- 485584109231. 3
- 485584109232. 4

Question Number : 138 Question Id : 48558427308 Question Type : MCQ Option Shuffling : No Is Question Mandatory : No Calculator : None Response Time : N.A Think Time : N.A Minimum Instruction Time : 0

Correct Marks : 5 Wrong Marks : 1

Question Key Details :

Key	Value
Comprehension	MCQ

निम्नलिखित में से कौन तृतीयक क्रियाकलापों में सम्मिलित हैं?

- A. व्यापार और वाणिज्य
- B. सूचना आधारित
- C. परिवहन
- D. संचार

नीचे दिए गए विकल्पों में से सही उत्तर का चयन कीजिए:

1. केवल A, B और C
2. केवल A, C और D
3. केवल B, C और D
4. केवल A, B और D

Options :

- 485584109229. 1
- 485584109230. 2
- 485584109231. 3
- 485584109232. 4

Question Number : 139 Question Id : 48558427309 Question Type : MCQ Option Shuffling : No Is Question Mandatory : No Calculator : None Response Time : N.A Think Time : N.A Minimum Instruction Time : 0

Correct Marks : 5 Wrong Marks : 1

Question Key Details :

Key	Value
Comprehension	MCQ

Major copper deposits are found in which of the following areas?

- A. Singhbhum
- B. Nellore
- C. Balaghat
- D. Jhunjhunu

Choose the correct answer from the options given below:

1. B, C and D only
2. A, B and C only
3. A, B and D only
4. A, C and D only

Options :

- 485584109233. 1
- 485584109234. 2
- 485584109235. 3
- 485584109236. 4

Question Number : 139 Question Id : 48558427309 Question Type : MCQ Option Shuffling : No Is Question Mandatory : No Calculator : None Response Time : N.A Think Time : N.A Minimum Instruction Time : 0

Correct Marks : 5 Wrong Marks : 1

Question Key Details :

Key	Value
Comprehension	MCQ

निम्नलिखित किन क्षेत्रों में तांबे के प्रमुख निक्षेप पाए जाते हैं?

- A. सिंहभूम
- B. नल्लोर
- C. बालाघाट
- D. झुंझुनु

नीचे दिए गए विकल्पों में से सही उत्तर का चयन कीजिए:

1. केवल B, C और D
2. केवल A, B और C
3. केवल A, B और D
4. केवल A, C और D

Options :

- 485584109233. 1
- 485584109234. 2
- 485584109235. 3
- 485584109236. 4

Question Number : 140 Question Id : 48558427310 Question Type : MCQ Option Shuffling : No Is Question Mandatory : No Calculator : None Response Time : N.A Think Time : N.A Minimum Instruction Time : 0

Correct Marks : 5 Wrong Marks : 1

Question Key Details :

Key	Value
Comprehension	MCQ

Which of the following are major Trading and Commercial Towns?

- A. Winnipeg
- B. Jerusalem
- C. Kansas City
- D. Manchester

Choose the correct answer from the options given below:

1. A, B and C only
2. B, C and D only
3. A, B and D only
4. A, C and D only

Options :

- 485584109237. 1
- 485584109238. 2
- 485584109239. 3
- 485584109240. 4

Question Number : 140 Question Id : 48558427310 Question Type : MCQ Option Shuffling : No Is Question Mandatory : No Calculator : None Response Time : N.A Think Time : N.A Minimum Instruction Time : 0

Correct Marks : 5 Wrong Marks : 1

Question Key Details :

Key	Value
Comprehension	MCQ

निम्नलिखित में से कौन से प्रमुख व्यापारिक और वाणिज्यिक नगर है?

- A. विनिपेग
- B. जेरुसलम
- C. कंसास शहर
- D. मानचेस्टर

नीचे दिए गए विकल्पों में से सही उत्तर का चयन कीजिए:

1. केवल A, B और C
2. केवल B, C और D
3. केवल A, B और D
4. केवल A, C और D

Options :

- 485584109237. 1
- 485584109238. 2
- 485584109239. 3
- 485584109240. 4

Sub-Section Number : 2
Sub-Section Id : 4855841971
Question Shuffling Allowed : No
Is Section Default? : null

Question Number : 141 Question Id : 48558427311 Question Type : MCQ Option Shuffling : No Is Question Mandatory : No Calculator : None Response Time : N.A Think Time : N.A Minimum Instruction Time : 0

Correct Marks : 5 Wrong Marks : 1

Question Key Details :

Key	Value
Comprehension	Compl

Read the passage and answer the following question:

Pastoral nomadism is associated with three important regions. The core region extends from the Atlantic shores of North Africa eastwards across the Arabian Peninsula into Mongolia and Central China. The second region extends over the tundra region of Eurasia. In the southern hemisphere there are small areas in South-West Africa and on the island of Madagascar.

A wide variety of animals is kept in different regions. In tropical Africa, cattle are the most important livestock, while in Sahara and Asiatic deserts, sheep, goats and camel are reared. In the mountainous areas of Tibet and Andes, yak and llamas and in the Arctic and sub Arctic areas, reindeer are the most important animals.

Movement in search of pastures is undertaken either over vast horizontal distances or vertically from one elevation to another in the mountainous regions. The process of migration from plain areas to pastures on mountains during summers and again from mountain pastures to plain areas during winters is known as transhumance. In mountain regions, such as Himalayas, Gujjars, Bakarwals, Gaddis and Bhotiyas migrate from plains to the mountains in summers and to the plains from the high altitude pastures in winters. Similarly, in the tundra regions, the nomadic herders move from south to north in summers and from north to south in winters.

The number of pastoral nomads has been decreasing and the areas operated by them shrinking. This is due to (a) imposition of political boundaries; (b) new settlement plans by different countries.

Pastoral nomadism is a _____ .

1. Primary activity
2. Secondary activity
3. Quinary activity
4. Tertiary activity

Options :

- 485584109241. 1
- 485584109242. 2

485584109243. 3
485584109244. 4

Question Number : 141 Question Id : 48558427311 Question Type : MCQ Option Shuffling : No Is Question Mandatory : No Calculator : None Response Time : N.A Think Time : N.A Minimum Instruction Time : 0

Correct Marks : 5 Wrong Marks : 1

Question Key Details :

Key	Value
Comprehension	Comp1

चलवासी पशुचारण के तीन प्रमुख क्षेत्र हैं। इसका प्रमुख क्षेत्र उत्तरी अफ्रीका के एटलान्टिक तट से अरब प्रायद्वीप होता हुआ मंगोलिया एवं मध्य चीन तक फैला है। दूसरा क्षेत्र यूरोप तथा एशिया के टुंड्रा प्रदेश में है। दक्षिणी गोलार्द्ध में दक्षिणी पश्चिमी अफ्रीका एवं मेडागास्कर द्वीप पर छोटे क्षेत्र हैं। भिन्न-भिन्न क्षेत्रों में कई प्रकार के पशु पाले जाते हैं। उष्णकटिबंधीय अफ्रीका में गाय-बैल प्रमुख पशु हैं, जबकि सहारा एवं एशिया के मरुस्थलों में भेड़, बकरी एवं ऊँट पाले जाते हैं। तिब्बत एवं एंडीज के पर्वतीय भागों में यॉक व लामा एवं आर्कटिक और उप-उत्तरी ध्रुवीय क्षेत्रों में रेंडियर पाला जाता है। चरागाहों की खोज में ये पशुचारक समतल भागों एवं पर्वतीय क्षेत्रों में लंबी दूरीयाँ तय करते हैं। गर्मियों में मैदानी भाग से पर्वतीय चरागाह की ओर एवं शीत में पर्वतीय भाग से मैदानी चरागाहों की ओर प्रवास करते हैं। इनकी इस गतिविधि को ऋतुप्रवास कहा जाता है। हिमालय के पर्वतीय क्षेत्रों में गुज्जर, बकरवाल, गद्दी एवं भूटिया लोगों के समूह ग्रीष्मकाल में मैदानी क्षेत्रों से पर्वतीय क्षेत्रों में चले जाते हैं एवं शीतकाल में पर्वतीय क्षेत्रों से मैदानी क्षेत्रों में आ जाते हैं। इसी प्रकार टुंड्रा प्रदेश में ग्रीष्म काल में दक्षिण से उत्तर की ओर एवं शीत में उत्तर से दक्षिण की ओर चलवासी पशुचारकों का पशुओं के साथ प्रवास होता है।

चलवासी पशुचारकों की संख्या अब घट रही है एवं इनके द्वारा उपयोग में लाए गए क्षेत्र में भी कमी हो रही है। इसके दो कारण हैं (क) राजनीतिक सीमाओं का अधिरोपण (ख) विभिन्न देशों द्वारा नई बस्तियों की योजना बनाना।

चलवासी पशुचारण एक _____ है।

1. प्राथमिक क्रियाकलाप
2. द्वितीयक क्रियाकलाप
3. पंचम क्रियाकलाप
4. तृतीयक क्रियाकलाप

Options :

485584109241. 1
485584109242. 2
485584109243. 3
485584109244. 4

Question Number : 142 Question Id : 48558427312 Question Type : MCQ Option Shuffling : No Is Question Mandatory : No Calculator : None Response Time : N.A Think Time : N.A Minimum Instruction Time : 0

Correct Marks : 5 Wrong Marks : 1

Question Key Details :

Key	Value
Comprehension	Comp1

Read the passage and answer the following question:

Pastoral nomadism is associated with three important regions. The core region extends from the Atlantic shores of North Africa eastwards across the Arabian Peninsula into Mongolia and Central China. The second region extends over the tundra region of Eurasia. In the southern hemisphere there are small areas in South-West Africa and on the island of Madagascar.

A wide variety of animals is kept in different regions. In tropical Africa, cattle are the most important livestock, while in Sahara and Asiatic deserts, sheep, goats and camel are reared. In the mountainous areas of Tibet and Andes, yak and llamas and in the Arctic and sub Arctic areas, reindeer are the most important animals.

Movement in search of pastures is undertaken either over vast horizontal distances or vertically from one elevation to another in the mountainous regions. The process of migration from plain areas to pastures on mountains during summers and again from mountain pastures to plain areas during winters is known as transhumance. In mountain regions, such as Himalayas, Gujjars, Bakarwals, Gaddis and Bhotiyas migrate from plains to the mountains in summers and to the plains from the high altitude pastures in winters. Similarly, in the tundra regions, the nomadic herders move from south to north in summers and from north to south in winters.

The number of pastoral nomads has been decreasing and the areas operated by them shrinking. This is due to (a) imposition of political boundaries; (b) new settlement plans by different countries.

Sheep and Camel are the important livestock of which of the following region?

1. Arctic region
2. Asiatic Deserts
3. Tibet
4. Tropical Africa

Options :

485584109245. 1
485584109246. 2
485584109247. 3
485584109248. 4

Question Number : 142 Question Id : 48558427312 Question Type : MCQ Option Shuffling : No Is Question Mandatory : No Calculator : None Response Time : N.A Think Time : N.A Minimum Instruction Time : 0

Correct Marks : 5 Wrong Marks : 1

Question Key Details :

Key	Value
Comprehension	Compl

चलवासी पशुचारण के तीन प्रमुख क्षेत्र हैं। इसका प्रमुख क्षेत्र उत्तरी अफ्रीका के एटलांटिक तट से अरब प्रायद्वीप होता हुआ मंगोलिया एवं मध्य चीन तक फैला है। दूसरा क्षेत्र यूरोप तथा एशिया के टुंड्रा प्रदेश में है। दक्षिणी गोलार्द्ध में दक्षिणी पश्चिमी अफ्रीका एवं मेडागास्कर द्वीप पर छोटे क्षेत्र हैं। भिन्न-भिन्न क्षेत्रों में कई प्रकार के पशु पाले जाते हैं। उष्णकटिबंधीय अफ्रीका में गाय-बैल प्रमुख पशु हैं, जबकि सहारा एवं एशिया के मरुस्थलों में भेड़, बकरी एवं ऊँट पाले जाते हैं। तिब्बत एवं एंडीज के पर्वतीय भागों में यॉक व लामा एवं आर्कटिक और उप-उत्तरी ध्रुवीय क्षेत्रों में रेंडियर पाला जाता है। चरागाहों की खोज में ये पशुचारक समतल भागों एवं पर्वतीय क्षेत्रों में लंबी दूरियाँ तय करते हैं। गर्मियों में मैदानी भाग से पर्वतीय चरागाह की ओर एवं शीत में पर्वतीय भाग से मैदानी चरागाहों की ओर प्रवास करते हैं। इनकी इस गतिविधि को ऋतुप्रवास कहा जाता है। हिमालय के पर्वतीय क्षेत्रों में गुज्जर, बकरवाल, गद्दी एवं भूटिया लोगों के समूह ग्रीष्मकाल में मैदानी क्षेत्रों से पर्वतीय क्षेत्रों में चले जाते हैं एवं शीतकाल में पर्वतीय क्षेत्रों से मैदानी क्षेत्रों में आ जाते हैं। इसी प्रकार टुंड्रा प्रदेश में ग्रीष्म काल में दक्षिण से उत्तर की ओर एवं शीत में उत्तर से दक्षिण की ओर चलवासी पशुचारकों का पशुओं के साथ प्रवास होता है।

चलवासी पशुचारकों की संख्या अब घट रही है एवं इनके द्वारा उपयोग में लाए गए क्षेत्र में भी कमी हो रही है। इसके दो कारण हैं (क) राजनीतिक सीमाओं का अधिरोपण (ख) विभिन्न देशों द्वारा नई बस्तियों की योजना बनाना।

भेड़ और ऊँट निम्नलिखित में से किस प्रदेश के महत्वपूर्ण पशु हैं?

1. आर्कटिक प्रदेश
2. एशिया के मरुस्थल
3. तिब्बत
4. उष्णकटिबंधीय अफ्रीका

Options :

485584109245. 1
485584109246. 2
485584109247. 3
485584109248. 4

Question Number : 143 Question Id : 48558427313 Question Type : MCQ Option Shuffling : No Is Question Mandatory : No Calculator : None Response Time : N.A Think Time : N.A Minimum Instruction Time : 0

Correct Marks : 5 Wrong Marks : 1

Question Key Details :

Key	Value
Comprehension	Compl

Read the passage and answer the following question:

Pastoral nomadism is associated with three important regions. The core region extends from the Atlantic shores of North Africa eastwards across the Arabian Peninsula into Mongolia and Central China. The second region extends over the tundra region of Eurasia. In the southern hemisphere there are small areas in South-West Africa and on the island of Madagascar.

A wide variety of animals is kept in different regions. In tropical Africa, cattle are the most important livestock, while in Sahara and Asiatic deserts, sheep, goats and camel are reared. In the mountainous areas of Tibet and Andes, yak and llamas and in the Arctic and sub Arctic areas, reindeer are the most important animals.

Movement in search of pastures is undertaken either over vast horizontal distances or vertically from one elevation to another in the mountainous regions. The process of migration from plain areas to pastures on mountains during summers and again from mountain pastures to plain areas during winters is known as transhumance. In mountain regions, such as Himalayas, Gujjars, Bakarwals, Gaddis and Bhotiyas migrate from plains to the mountains in summers and to the plains from the high altitude pastures in winters. Similarly, in the tundra regions, the nomadic herders move from south to north in summers and from north to south in winters.

The number of pastoral nomads has been decreasing and the areas operated by them shrinking. This is due to (a) imposition of political boundaries; (b) new settlement plans by different countries.

The process of migration in mountainous regions from one place to another with livestock in search of water and pastures is called _____.

1. Emigration
2. Livestock rearing
3. Transhumance
4. Immigration

Options :

485584109249. 1

485584109250. 2

485584109251. 3

485584109252. 4

Question Number : 143 Question Id : 48558427313 Question Type : MCQ Option Shuffling : No Is Question Mandatory : No Calculator : None Response Time : N.A Think Time : N.A Minimum Instruction Time : 0

Correct Marks : 5 Wrong Marks : 1

Question Key Details :

Key	Value
Comprehension	Compl

चलवासी पशुचारण के तीन प्रमुख क्षेत्र हैं। इसका प्रमुख क्षेत्र उत्तरी अफ्रीका के एटलांटिक तट से अरब प्रायद्वीप होता हुआ मंगोलिया एवं मध्य चीन तक फैला है। दूसरा क्षेत्र यूरोप तथा एशिया के टुंड्रा प्रदेश में है। दक्षिणी गोलार्द्ध में दक्षिणी पश्चिमी अफ्रीका एवं मेडागास्कर द्वीप पर छोटे क्षेत्र हैं। भिन्न-भिन्न क्षेत्रों में कई प्रकार के पशु पाले जाते हैं। उष्णकटिबंधीय अफ्रीका में गाय-बैल प्रमुख पशु हैं, जबकि सहारा एवं एशिया के मरुस्थलों में भेड़, बकरी एवं ऊँट पाले जाते हैं। तिब्बत एवं एंडीज के पर्वतीय भागों में यॉक व लामा एवं आर्कटिक और उप-उत्तरी ध्रुवीय क्षेत्रों में रेंडियर पाला जाता है। चरागाहों की खोज में ये पशुचारक समतल भागों एवं पर्वतीय क्षेत्रों में लंबी दूरीयाँ तय करते हैं। गर्मियों में मैदानी भाग से पर्वतीय चरागाह की ओर एवं शीत में पर्वतीय भाग से मैदानी चरागाहों की ओर प्रवास करते हैं। इनकी इस गतिविधि को ऋतुप्रवास कहा जाता है। हिमालय के पर्वतीय क्षेत्रों में गुज्जर, बकरवाल, गद्दी एवं भूटिया लोगों के समूह ग्रीष्मकाल में मैदानी क्षेत्रों से पर्वतीय क्षेत्रों में चले जाते हैं एवं शीतकाल में पर्वतीय क्षेत्रों से मैदानी क्षेत्रों में आ जाते हैं। इसी प्रकार टुंड्रा प्रदेश में ग्रीष्म काल में दक्षिण से उत्तर की ओर एवं शीत में उत्तर से दक्षिण की ओर चलवासी पशुचारकों का पशुओं के साथ प्रवास होता है।

चलवासी पशुचारकों की संख्या अब घट रही है एवं इनके द्वारा उपयोग में लाए गए क्षेत्र में भी कमी हो रही है। इसके दो कारण हैं (क) राजनीतिक सीमाओं का अधिरोपण (ख) विभिन्न देशों द्वारा नई बस्तियों की योजना बनाना।

पर्वतीय भागों में अपने पशुओं के साथ एक स्थान से दूसरे स्थान पर पानी और चरागाहों की खोज में प्रवास की प्रक्रिया को _____ कहते हैं।

1. आप्रवास
2. पशुचारण
3. ऋतु प्रवास
4. उत्प्रवास

Options :

485584109249. 1
485584109250. 2
485584109251. 3
485584109252. 4

Question Number : 144 Question Id : 48558427314 Question Type : MCQ Option Shuffling : No Is Question Mandatory : No Calculator : None Response Time : N.A Think Time : N.A Minimum Instruction Time : 0

Correct Marks : 5 Wrong Marks : 1

Question Key Details :

Key	Value
Comprehension	Comp1

Read the passage and answer the following question:

Pastoral nomadism is associated with three important regions. The core region extends from the Atlantic shores of North Africa eastwards across the Arabian Peninsula into Mongolia and Central China. The second region extends over the tundra region of Eurasia. In the southern hemisphere there are small areas in South-West Africa and on the island of Madagascar.

A wide variety of animals is kept in different regions. In tropical Africa, cattle are the most important livestock, while in Sahara and Asiatic deserts, sheep, goats and camel are reared. In the mountainous areas of Tibet and Andes, yak and llamas and in the Arctic and sub Arctic areas, reindeer are the most important animals.

Movement in search of pastures is undertaken either over vast horizontal distances or vertically from one elevation to another in the mountainous regions. The process of migration from plain areas to pastures on mountains during summers and again from mountain pastures to plain areas during winters is known as transhumance. In mountain regions, such as Himalayas, Gujjars, Bakarwals, Gaddis and Bhotiyas migrate from plains to the mountains in summers and to the plains from the high altitude pastures in winters. Similarly, in the tundra regions, the nomadic herders move from south to north in summers and from north to south in winters.

The number of pastoral nomads has been decreasing and the areas operated by them shrinking. This is due to (a) imposition of political boundaries; (b) new settlement plans by different countries.

In tundra regions nomadic herders move in winters in which of the following directions?

1. North to South
2. South to North
3. East to West
4. West to North

Options :

485584109253. 1
485584109254. 2
485584109255. 3
485584109256. 4

Question Number : 144 Question Id : 48558427314 Question Type : MCQ Option Shuffling : No Is Question Mandatory : No Calculator : None Response Time : N.A Think Time : N.A Minimum Instruction Time : 0

Correct Marks : 5 Wrong Marks : 1

Question Key Details :

Key	Value
Comprehension	Comp1

चलवासी पशुचारण के तीन प्रमुख क्षेत्र हैं। इसका प्रमुख क्षेत्र उत्तरी अफ्रीका के एटलांटिक तट से अरब प्रायद्वीप होता हुआ मंगोलिया एवं मध्य चीन तक फैला है। दूसरा क्षेत्र यूरोप तथा एशिया के टुंड्रा प्रदेश में है। दक्षिणी गोलार्द्ध में दक्षिणी पश्चिमी अफ्रीका एवं मेडागास्कर द्वीप पर छोटे क्षेत्र हैं। भिन्न-भिन्न क्षेत्रों में कई प्रकार के पशु पाले जाते हैं। उष्णकटिबंधीय अफ्रीका में गाय-बैल प्रमुख पशु हैं, जबकि सहारा एवं एशिया के मरुस्थलों में भेड़, बकरी एवं ऊँट पाले जाते हैं। तिब्बत एवं एंडीज के पर्वतीय भागों में यॉक व लामा एवं आर्कटिक और उप-उत्तरी ध्रुवीय क्षेत्रों में रेंडियर पाला जाता है। चरागाहों की खोज में ये पशुचारक समतल भागों एवं पर्वतीय क्षेत्रों में लंबी दूरीयाँ तय करते हैं। गर्मियों में मैदानी भाग से पर्वतीय चरागाह की ओर एवं शीत में पर्वतीय भाग से मैदानी चरागाहों की ओर प्रवास करते हैं। इनकी इस गतिविधि को ऋतुप्रवास कहा जाता है। हिमालय के पर्वतीय क्षेत्रों में गुज्जर, बकरवाल, गद्दी एवं भूटिया लोगों के समूह ग्रीष्मकाल में मैदानी क्षेत्रों से पर्वतीय क्षेत्रों में चले जाते हैं एवं शीतकाल में पर्वतीय क्षेत्रों से मैदानी क्षेत्रों में आ जाते हैं। इसी प्रकार टुंड्रा प्रदेश में ग्रीष्म काल में दक्षिण से उत्तर की ओर एवं शीत में उत्तर से दक्षिण की ओर चलवासी पशुचारकों का पशुओं के साथ प्रवास होता है।

चलवासी पशुचारकों की संख्या अब घट रही है एवं इनके द्वारा उपयोग में लाए गए क्षेत्र में भी कमी हो रही है। इसके दो कारण हैं (क) राजनीतिक सीमाओं का अधिरोपण (ख) विभिन्न देशों द्वारा नई बस्तियों की योजना बनाना।

टुंड्रा प्रदेशों में चलवासी पशुचारक शीत ऋतु में निम्न में से किस दिशा में प्रवास करते हैं?

1. उत्तर से दक्षिण
2. दक्षिण से उत्तर
3. पूर्व से पश्चिम
4. पश्चिम से उत्तर

Options :

485584109253. 1
485584109254. 2
485584109255. 3
485584109256. 4

Question Number : 145 Question Id : 48558427315 Question Type : MCQ Option Shuffling : No Is Question Mandatory : No Calculator : None Response Time : N.A Think Time : N.A Minimum Instruction Time : 0

Correct Marks : 5 Wrong Marks : 1

Question Key Details :

Key	Value
Comprehension	Comp1

Read the passage and answer the following question:

Pastoral nomadism is associated with three important regions. The core region extends from the Atlantic shores of North Africa eastwards across the Arabian Peninsula into Mongolia and Central China. The second region extends over the tundra region of Eurasia. In the southern hemisphere there are small areas in South-West Africa and on the island of Madagascar.

A wide variety of animals is kept in different regions. In tropical Africa, cattle are the most important livestock, while in Sahara and Asiatic deserts, sheep, goats and camel are reared. In the mountainous areas of Tibet and Andes, yak and llamas and in the Arctic and sub Arctic areas, reindeer are the most important animals.

Movement in search of pastures is undertaken either over vast horizontal distances or vertically from one elevation to another in the mountainous regions. The process of migration from plain areas to pastures on mountains during summers and again from mountain pastures to plain areas during winters is known as transhumance. In mountain regions, such as Himalayas, Gujjars, Bakarwals, Gaddis and Bhotiyas migrate from plains to the mountains in summers and to the plains from the high altitude pastures in winters. Similarly, in the tundra regions, the nomadic herders move from south to north in summers and from north to south in winters.

The number of pastoral nomads has been decreasing and the areas operated by them shrinking. This is due to (a) imposition of political boundaries; (b) new settlement plans by different countries.

Which one of the following is an area known for nomadic herding?

1. South India
2. Tundra region
3. Monsoon region
4. Southern Europe

Options :

485584109257. 1
485584109258. 2
485584109259. 3
485584109260. 4

Question Number : 145 Question Id : 48558427315 Question Type : MCQ Option Shuffling : No Is Question Mandatory : No Calculator : None Response Time : N.A Think Time : N.A Minimum Instruction Time : 0

Correct Marks : 5 Wrong Marks : 1

Question Key Details :

Key	Value
Comprehension	Compl

चलवासी पशुचारण के तीन प्रमुख क्षेत्र हैं। इसका प्रमुख क्षेत्र उत्तरी अफ्रीका के एटलांटिक तट से अरब प्रायद्वीप होता हुआ मंगोलिया एवं मध्य चीन तक फैला है। दूसरा क्षेत्र यूरोप तथा एशिया के टुंड्रा प्रदेश में है। दक्षिणी गोलार्द्ध में दक्षिणी पश्चिमी अफ्रीका एवं मेडागास्कर द्वीप पर छोटे क्षेत्र हैं। भिन्न-भिन्न क्षेत्रों में कई प्रकार के पशु पाले जाते हैं। उष्णकटिबंधीय अफ्रीका में गाय-बैल प्रमुख पशु हैं, जबकि सहारा एवं एशिया के मरुस्थलों में भेड़, बकरी एवं ऊँट पाले जाते हैं। तिब्बत एवं एंडीज के पर्वतीय भागों में यॉक व लामा एवं आर्कटिक और उप-उत्तरी ध्रुवीय क्षेत्रों में रेंडियर पाला जाता है। चरागाहों की खोज में ये पशुचारक समतल भागों एवं पर्वतीय क्षेत्रों में लंबी दूरियाँ तय करते हैं। गर्मियों में मैदानी भाग से पर्वतीय चरागाह की ओर एवं शीत में पर्वतीय भाग से मैदानी चरागाहों की ओर प्रवास करते हैं। इनकी इस गतिविधि को ऋतुप्रवास कहा जाता है। हिमालय के पर्वतीय क्षेत्रों में गुज्जर, बकरवाल, गद्दी एवं भूटिया लोगों के समूह ग्रीष्मकाल में मैदानी क्षेत्रों से पर्वतीय क्षेत्रों में चले जाते हैं एवं शीतकाल में पर्वतीय क्षेत्रों से मैदानी क्षेत्रों में आ जाते हैं। इसी प्रकार टुंड्रा प्रदेश में ग्रीष्म काल में दक्षिण से उत्तर की ओर एवं शीत में उत्तर से दक्षिण की ओर चलवासी पशुचारकों का पशुओं के साथ प्रवास होता है।

चलवासी पशुचारकों की संख्या अब घट रही है एवं इनके द्वारा उपयोग में लाए गए क्षेत्र में भी कमी हो रही है। इसके दो कारण हैं (क) राजनीतिक सीमाओं का अधिरोपण (ख) विभिन्न देशों द्वारा नई बस्तियों की योजना बनाना।

निम्नलिखित में से कौन सा एक क्षेत्र चलवासी पशुचारण के लिए जाना जाता है?

1. दक्षिण भारत
2. टुंड्रा प्रदेश
3. मानसून प्रदेश
4. दक्षिणी यूरोप

Options :

485584109257. 1
485584109258. 2
485584109259. 3
485584109260. 4

Sub-Section Number :

3

Sub-Section Id :

4855841972

Question Shuffling Allowed :

No

Is Section Default? :

null

Question Number : 146 Question Id : 48558427316 Question Type : MCQ Option Shuffling : No Is Question Mandatory : No Calculator : None Response Time : N.A Think Time : N.A Minimum Instruction Time : 0

Correct Marks : 5 Wrong Marks : 1

Question Key Details :

Key	Value
-----	-------

Read the passage and answer following question :

An important aspect of population growth in India is the growth of its adolescents. At present the share of adolescents i.e. up to the age group of 10-19 years is about 20.9 per cent (2011), among which male adolescents constitute 52.7 per cent and female adolescents constitute 47.3 per cent. The adolescent population, though, regarded as the youthful population having high potentials, but at the same time they are quite vulnerable if not guided and channelized properly. There are many challenges for the society as far as these adolescents are concerned, some of which are lower age at marriage, illiteracy-particularly female illiteracy, school dropouts, low intake of nutrients, high rate of maternal mortality of adolescent mothers, high rate of HIV and AIDS infections, physical and mental disability or retardeness, drug abuse and alcoholism, juvenile delinquency and committence of crimes, etc. In view of these, the Government of India has undertaken certain polices to impart proper education to the adolescent groups so that their talents are better channelized and properly utilised. The National Youth Policy is one example which has been designed to look into the overall development of our large youth and adolescent population.

The National Youth Policy (NYP-2014) launched in February 2014 proposes a holistic 'vision' for the youth of India, which is "To empower the Youth of the country to achieve their full potential, and through them enable India to find its rightful place in the community of nations." The NYP-2014 has defined 'Youth' as persons in the age group of 15-29 years.

The NYP-2014 has defined 'youth' as persons in the age group of _____ :

1. 10-19 years
2. 15-29 years
3. 20-40 years
4. 19-30 years

Options :

485584109261. 1
485584109262. 2
485584109263. 3
485584109264. 4

Question Number : 146 Question Id : 48558427316 Question Type : MCQ Option Shuffling : No Is Question Mandatory : No Calculator : None Response Time : N.A Think Time : N.A Minimum Instruction Time : 0

Correct Marks : 5 Wrong Marks : 1

Question Key Details :

Key	Value
Comprehension	Comp2

भारत में जनसंख्या वृद्धि का एक महत्वपूर्ण पक्ष इसके किशोरों की वृद्धि है। वर्तमान में किशोरों अर्थात् 10-19 वर्ष के आयु वर्ग का अंश 20.9 प्रतिशत है (2011), जिसमें 52.7 प्रतिशत किशोर और 47.3 प्रतिशत किशोरियाँ सम्मिलित हैं। किशोर जनसंख्या, यद्यपि उच्च संभावनाओं से युक्त युवा जनसंख्या समझी जाती है, यदि उन्हें समुचित ढंग से मार्गदर्शित और दिशा निर्देशित न किया जाए तो वे काफ़ी सुभेद्य (Vulnerable) भी होते हैं। जहाँ तक इन किशोरों का संबंध है समाज के समक्ष अनेक चुनौतियाँ हैं, जिनमें से कुछ विवाह की निम्न आयु, निरक्षरता, विशेषतः स्त्री निरक्षरता, विद्यालय विरतछात्र, पोषकों की निम्न ग्राह्यता, किशोर माताओं में उच्च मातृ मृत्यु दर, एच.आई.वी. / एड्स के संक्रमण के उच्च दरें, शारीरिक और मानसिक अपंगता अथवा मंदता, औषध दुरुपयोग और मदिरा सेवन किशोर अपचार और अपराध करना इत्यादि हैं।

इन तथ्यों को दृष्टिगत रखते हुए भारत सरकार ने किशोर वर्गों को उपयुक्त शिक्षा प्रदान करने के लिए कुछ निश्चित नीतियाँ बनाई हैं ताकि उनके गुणों का बेहतर मार्गदर्शन और उपयुक्त उपयोग किया जा सके। राष्ट्रीय युवा नीति एक ऐसा उदाहरण है जिसे हमारी विशाल, युवा और किशोर जनसंख्या के समग्र विकास की देखरेख हेतु अभिकल्पित किया गया है।

राष्ट्रीय युवा नीति (NYP-2014) फरवरी 2014 में आरंभ की गई है जो भारत के युवाओं के लिए एक समग्र दूरदर्शी प्रस्ताव रखती है। "देश के युवाओं को अपनी पूरी क्षमता का उपयोग करने के लिए सक्षम बनाना और उनके द्वारा भारत को राष्ट्रों के समूह में अपना उचित स्थान प्राप्त करने में सक्षम बनाना है।" राष्ट्रीय युवा नीति 2014, 15-29 वर्ष के आयु समूह के व्यक्ति को 'युवा' के रूप में परिभाषित करती है।

राष्ट्रीय युवा नीति (NYP-2014) में _____ आयु समूह के व्यक्ति को युवा के रूप में परिभाषित करती है।

1. 10-19 वर्ष
2. 15-29 वर्ष
3. 20-40 वर्ष
4. 19-30 वर्ष

Options :

485584109261. 1
485584109262. 2
485584109263. 3
485584109264. 4

Question Number : 147 Question Id : 48558427317 Question Type : MCQ Option Shuffling : No Is Question Mandatory : No Calculator : None Response Time : N.A Think Time : N.A Minimum Instruction Time : 0

Correct Marks : 5 Wrong Marks : 1

Question Key Details :

Key	Value
Comprehension	Comp2

Read the passage and answer following question :

An important aspect of population growth in India is the growth of its adolescents. At present the share of adolescents i.e. up to the age group of 10-19 years is about 20.9 per cent (2011), among which male adolescents constitute 52.7 per cent and female adolescents constitute 47.3 per cent. The adolescent population, though, regarded as the youthful population having high potentials, but at the same time they are quite vulnerable if not guided and channelized properly. There are many challenges for the society as far as these adolescents are concerned, some of which are lower age at marriage, illiteracy-particularly female illiteracy, school dropouts, low intake of nutrients, high rate of maternal mortality of adolescent mothers, high rate of HIV and AIDS infections, physical and mental disability or retardeness, drug abuse and alcoholism, juvenile delinquency and commitment of crimes, etc. In view of these, the Government of India has undertaken certain policies to impart proper education to the adolescent groups so that their talents are better channelized and properly utilised. The National Youth Policy is one example which has been designed to look into the overall development of our large youth and adolescent population.

The National Youth Policy (NYP-2014) launched in February 2014 proposes a holistic 'vision' for the youth of India, which is "To empower the Youth of the country to achieve their full potential, and through them enable India to find its rightful place in the community of nations." The NYP-2014 has defined 'Youth' as persons in the age group of 15-29 years.

The percentage of female adolescents in adolescents according to Census 2011 was _____.

1. 20.9%
2. 52.7%
3. 47.3%
4. 31.16%

Options :

485584109265. 1
485584109266. 2
485584109267. 3
485584109268. 4

Question Number : 147 Question Id : 48558427317 Question Type : MCQ Option Shuffling : No Is Question Mandatory : No Calculator : None Response Time : N.A Think Time : N.A Minimum Instruction Time : 0

Correct Marks : 5 Wrong Marks : 1

Question Key Details :

Key	Value
Comprehension	Comp2

भारत में जनसंख्या वृद्धि का एक महत्वपूर्ण पक्ष इसके किशोरों की वृद्धि है। वर्तमान में किशोरों अर्थात् 10-19 वर्ष के आयु वर्ग का अंश 20.9 प्रतिशत है (2011), जिसमें 52.7 प्रतिशत किशोर और 47.3 प्रतिशत किशोरियाँ सम्मिलित हैं। किशोर जनसंख्या, यद्यपि उच्च संभावनाओं से युक्त युवा जनसंख्या समझी जाती है, यदि उन्हें समुचित ढंग से मार्गदर्शित और दिशा निर्देशित न किया जाए तो वे काफी सुभेद्य (Vulnerable) भी होते हैं। जहाँ तक इन किशोरों का संबंध है समाज के समक्ष अनेक चुनौतियाँ हैं, जिनमें से कुछ विवाह की निम्न आयु, निरक्षरता, विशेषतः स्त्री निरक्षरता, विद्यालय विरतछात्र, पोषकों की निम्न ग्राह्यता, किशोर माताओं में उच्च मातृ मृत्यु दर, एच.आई.वी. / एड्स के संक्रमण के उच्च दरें, शारीरिक और मानसिक अपंगता अथवा मंदता, औषध दुरुपयोग और मदिरा सेवन किशोर अपचार और अपराध करना इत्यादि हैं।

इन तथ्यों को दृष्टिगत रखते हुए भारत सरकार ने किशोर वर्गों को उपयुक्त शिक्षा प्रदान करने के लिए कुछ निश्चित नीतियाँ बनाई हैं ताकि उनके गुणों का बेहतर मार्गदर्शन और उपयुक्त उपयोग किया जा सके। राष्ट्रीय युवा नीति एक ऐसा उदाहरण है जिसे हमारी विशाल, युवा और किशोर जनसंख्या के समग्र विकास की देखरेख हेतु अभिकल्पित किया गया है।

राष्ट्रीय युवा नीति (NYP-2014) फरवरी 2014 में आरंभ की गई है जो भारत के युवाओं के लिए एक समग्र दूरदर्शी प्रस्ताव रखती है। "देश के युवाओं को अपनी पूरी क्षमता का उपयोग करने के लिए सक्षम बनाना और उनके द्वारा भारत को राष्ट्रों के समूह में अपना उचित स्थान प्राप्त करने में सक्षम बनाना है।" राष्ट्रीय युवा नीति 2014, 15-29 वर्ष के आयु समूह के व्यक्ति को 'युवा' के रूप में परिभाषित करती है।

2011 की जनगणना के अनुसार किशोरों में महिला किशोरों का अनुपात _____ है।

1. 20.9%
2. 52.7%
3. 47.3%
4. 31.16%

Options :

485584109265. 1
485584109266. 2
485584109267. 3
485584109268. 4

Question Number : 148 Question Id : 48558427318 Question Type : MCQ Option Shuffling : No Is Question Mandatory : No Calculator : None Response Time : N.A Think Time : N.A Minimum Instruction Time : 0

Correct Marks : 5 Wrong Marks : 1

Question Key Details :

Key	Value
Comprehension	Comp2

Read the passage and answer following question :

An important aspect of population growth in India is the growth of its adolescents. At present the share of adolescents i.e. up to the age group of 10-19 years is about 20.9 per cent (2011), among which male adolescents constitute 52.7 per cent and female adolescents constitute 47.3 per cent. The adolescent population, though, regarded as the youthful population having high potentials, but at the same time they are quite vulnerable if not guided and channelized properly. There are many challenges for the society as far as these adolescents are concerned, some of which are lower age at marriage, illiteracy-particularly female illiteracy, school dropouts, low intake of nutrients, high rate of maternal mortality of adolescent mothers, high rate of HIV and AIDS infections, physical and mental disability or retardeness, drug abuse and alcoholism, juvenile delinquency and committence of crimes, etc. In view of these, the Government of India has undertaken certain polices to impart proper education to the adolescent groups so that their talents are better channelized and properly utilised. The National Youth Policy is one example which has been designed to look into the overall development of our large youth and adolescent population.

The National Youth Policy (NYP-2014) launched in February 2014 proposes a holistic 'vision' for the youth of India, which is "To empower the Youth of the country to achieve their full potential, and through them enable India to find its rightful place in the community of nations." The NYP-2014 has defined 'Youth' as persons in the age group of 15-29 years.

The National Youth Policy was launched by Government of India for which one of the following objectives?

1. Economic development of youth
2. Overall development of youth
3. Social development of adolescent
4. For educational development of youth

Options :

485584109269. 1
485584109270. 2
485584109271. 3
485584109272. 4

Question Number : 148 Question Id : 48558427318 Question Type : MCQ Option Shuffling : No Is Question Mandatory : No Calculator : None Response Time : N.A Think Time : N.A Minimum Instruction Time : 0

Correct Marks : 5 Wrong Marks : 1

Question Key Details :

Key	Value
Comprehension	Comp2

भारत में जनसंख्या वृद्धि का एक महत्वपूर्ण पक्ष इसके किशोरों की वृद्धि है। वर्तमान में किशोरों अर्थात् 10-19 वर्ष के आयु वर्ग का अंश 20.9 प्रतिशत है (2011), जिसमें 52.7 प्रतिशत किशोर और 47.3 प्रतिशत किशोरियाँ सम्मिलित हैं। किशोर जनसंख्या, यद्यपि उच्च संभावनाओं से युक्त युवा जनसंख्या समझी जाती है, यदि उन्हें समुचित ढंग से मार्गदर्शित और दिशा निर्देशित न किया जाए तो वे काफ़ी सुभेद्य (Vulnerable) भी होते हैं। जहाँ तक इन किशोरों का संबंध है समाज के समक्ष अनेक चुनौतियाँ हैं, जिनमें से कुछ विवाह की निम्न आयु, निरक्षरता, विशेषतः स्त्री निरक्षरता, विद्यालय विरतछात्र, पोषकों की निम्न ग्राह्यता, किशोर माताओं में उच्च मातृ मृत्यु दर, एच.आई.वी. / एड्स के संक्रमण के उच्च दरें, शारीरिक और मानसिक अपंगता अथवा मंदता, औषध दुरुपयोग और मदिरा सेवन किशोर अपचार और अपराध करना इत्यादि हैं। इन तथ्यों को दृष्टिगत रखते हुए भारत सरकार ने किशोर वर्गों को उपयुक्त शिक्षा प्रदान करने के लिए कुछ निश्चित नीतियाँ बनाई हैं ताकि उनके गुणों का बेहतर मार्गदर्शन और उपयुक्त उपयोग किया जा सके। राष्ट्रीय युवा नीति एक ऐसा उदाहरण है जिसे हमारी विशाल, युवा और किशोर जनसंख्या के समग्र विकास की देखरेख हेतु अभिकल्पित किया गया है। राष्ट्रीय युवा नीति (NYP-2014) फरवरी 2014 में आरंभ की गई है जो भारत के युवाओं के लिए एक समग्र दूरदर्शी प्रस्ताव रखती है। "देश के युवाओं को अपनी पूरी क्षमता का उपयोग करने के लिए सक्षम बनाना और उनके द्वारा भारत को राष्ट्रों के समूह में अपना उचित स्थान प्राप्त करने में सक्षम बनाना है।" राष्ट्रीय युवा नीति 2014, 15-29 वर्ष के आयु समूह के व्यक्ति को 'युवा' के रूप में परिभाषित करती है।

निम्नलिखित किस उद्देश्य के लिए भारत सरकार ने राष्ट्रीय युवा नीति लागू की थी?

1. युवाओं का आर्थिक विकास
2. युवाओं का समग्र विकास
3. किशोरों का सामाजिक विकास
4. युवाओं के शैक्षिक विकास के लिए

Options :

485584109269. 1
485584109270. 2
485584109271. 3
485584109272. 4

Question Number : 149 Question Id : 48558427319 Question Type : MCQ Option Shuffling : No Is Question Mandatory : No Calculator : None Response Time : N.A Think Time : N.A Minimum Instruction Time : 0

Correct Marks : 5 Wrong Marks : 1

Question Key Details :

Key	Value
Comprehension	Comp2

Read the passage and answer following question :

An important aspect of population growth in India is the growth of its adolescents. At present the share of adolescents i.e. up to the age group of 10-19 years is about 20.9 per cent (2011), among which male adolescents constitute 52.7 per cent and female adolescents constitute 47.3 per cent. The adolescent population, though, regarded as the youthful population having high potentials, but at the same time they are quite vulnerable if not guided and channelized properly. There are many challenges for the society as far as these adolescents are concerned, some of which are lower age at marriage, illiteracy-particularly female illiteracy, school dropouts, low intake of nutrients, high rate of maternal mortality of adolescent mothers, high rate of HIV and AIDS infections, physical and mental disability or retardeness, drug abuse and alcoholism, juvenile delinquency and commitment of crimes, etc. In view of these, the Government of India has undertaken certain polices to impart proper education to the adolescent groups so that their talents are better channelized and properly utilised. The National Youth Policy is one example which has been designed to look into the overall development of our large youth and adolescent population.

The National Youth Policy (NYP-2014) launched in February 2014 proposes a holistic 'vision' for the youth of India, which is "To empower the Youth of the country to achieve their full potential, and through them enable India to find its rightful place in the community of nations." The NYP-2014 has defined 'Youth' as persons in the age group of 15-29 years.

Which of the following age group is regarded as the population having high potentials?

1. Above 60 years
2. 10 to 19 years
3. Below 10 years
4. 15 to 29 years

Options :

485584109273. 1
485584109274. 2
485584109275. 3
485584109276. 4

Question Number : 149 Question Id : 48558427319 Question Type : MCQ Option Shuffling : No Is Question Mandatory : No Calculator : None Response Time : N.A Think Time : N.A Minimum Instruction Time : 0

Correct Marks : 5 Wrong Marks : 1

Question Key Details :

Key	Value
Comprehension	Comp2

भारत में जनसंख्या वृद्धि का एक महत्वपूर्ण पक्ष इसके किशोरों की वृद्धि है। वर्तमान में किशोरों अर्थात् 10-19 वर्ष के आयु वर्ग का अंश 20.9 प्रतिशत है (2011), जिसमें 52.7 प्रतिशत किशोर और 47.3 प्रतिशत किशोरियाँ सम्मिलित हैं। किशोर जनसंख्या, यद्यपि उच्च संभावनाओं से युक्त युवा जनसंख्या समझी जाती है, यदि उन्हें समुचित ढंग से मार्गदर्शित और दिशा निर्देशित न किया जाए तो वे काफ़ी सुभेद्य (Vulnerable) भी होते हैं। जहाँ तक इन किशोरों का संबंध है समाज के समक्ष अनेक चुनौतियाँ हैं, जिनमें से कुछ विवाह की निम्न आयु, निरक्षरता, विशेषतः स्त्री निरक्षरता, विद्यालय विरतछात्र, पोषकों की निम्न ग्राह्यता, किशोर माताओं में उच्च मातृ मृत्यु दर, एच.आई.वी. / एड्स के संक्रमण के उच्च दरें, शारीरिक और मानसिक अपंगता अथवा मंदता, औषध दुरुपयोग और मदिरा सेवन किशोर अपचार और अपराध करना इत्यादि हैं।

इन तथ्यों को दृष्टिगत रखते हुए भारत सरकार ने किशोर वर्गों को उपयुक्त शिक्षा प्रदान करने के लिए कुछ निश्चित नीतियाँ बनाई हैं ताकि उनके गुणों का बेहतर मार्गदर्शन और उपयुक्त उपयोग किया जा सके। राष्ट्रीय युवा नीति एक ऐसा उदाहरण है जिसे हमारी विशाल, युवा और किशोर जनसंख्या के समग्र विकास की देखरेख हेतु अभिकल्पित किया गया है।

राष्ट्रीय युवा नीति (NYP-2014) फरवरी 2014 में आरंभ की गई है जो भारत के युवाओं के लिए एक समग्र दूरदर्शी प्रस्ताव रखती है। "देश के युवाओं को अपनी पूरी क्षमता का उपयोग करने के लिए सक्षम बनाना और उनके द्वारा भारत को राष्ट्रों के समूह में अपना उचित स्थान प्राप्त करने में सक्षम बनाना है।" राष्ट्रीय युवा नीति 2014, 15-29 वर्ष के आयु समूह के व्यक्ति को 'युवा' के रूप में परिभाषित करती है।

निम्नलिखित किस आयु समूह को उच्च संभावनाओं से युक्त जनसंख्या समझा जाता है?

1. 60 वर्ष से अधिक
2. 10 से 19 वर्ष
3. 10 वर्ष से कम
4. 15 से 29 वर्ष

Options :

485584109273. 1
485584109274. 2
485584109275. 3
485584109276. 4

Question Number : 150 Question Id : 48558427320 Question Type : MCQ Option Shuffling : No Is Question Mandatory : No Calculator : None Response Time : N.A Think Time : N.A Minimum Instruction Time : 0

Correct Marks : 5 Wrong Marks : 1

Question Key Details :

Key	Value
Comprehension	Comp2

Read the passage and answer following question :

An important aspect of population growth in India is the growth of its adolescents. At present the share of adolescents i.e. up to the age group of 10-19 years is about 20.9 per cent (2011), among which male adolescents constitute 52.7 per cent and female adolescents constitute 47.3 per cent. The adolescent population, though, regarded as the youthful population having high potentials, but at the same time they are quite vulnerable if not guided and channelized properly. There are many challenges for the society as far as these adolescents are concerned, some of which are lower age at marriage, illiteracy-particularly female illiteracy, school dropouts, low intake of nutrients, high rate of maternal mortality of adolescent mothers, high rate of HIV and AIDS infections, physical and mental disability or retardeness, drug abuse and alcoholism, juvenile delinquency and commitment of crimes, etc. In view of these, the Government of India has undertaken certain policies to impart proper education to the adolescent groups so that their talents are better channelized and properly utilised. The National Youth Policy is one example which has been designed to look into the overall development of our large youth and adolescent population.

The National Youth Policy (NYP-2014) launched in February 2014 proposes a holistic 'vision' for the youth of India, which is "To empower the Youth of the country to achieve their full potential, and through them enable India to find its rightful place in the community of nations." The NYP-2014 has defined 'Youth' as persons in the age group of 15-29 years.

According to the Census 2011 the percentage of the age group of 10 to 19 years population is _____.

1. 52.7%
2. 31.7%
3. 20.9%
4. 10.8%

Options :

485584109277. 1
485584109278. 2
485584109279. 3
485584109280. 4

Question Number : 150 Question Id : 48558427320 Question Type : MCQ Option Shuffling : No Is Question Mandatory : No Calculator : None Response Time : N.A Think Time : N.A Minimum Instruction Time : 0

Correct Marks : 5 Wrong Marks : 1

Question Key Details :

Key	Value
Comprehension	Comp2

भारत में जनसंख्या वृद्धि का एक महत्वपूर्ण पक्ष इसके किशोरों की वृद्धि है। वर्तमान में किशोरों अर्थात् 10-19 वर्ष के आयु वर्ग का अंश 20.9 प्रतिशत है (2011), जिसमें 52.7 प्रतिशत किशोर और 47.3 प्रतिशत किशोरियाँ सम्मिलित हैं। किशोर जनसंख्या, यद्यपि उच्च संभावनाओं से युक्त युवा जनसंख्या समझी जाती है, यदि उन्हें समुचित ढंग से मार्गदर्शित और दिशा निर्देशित न किया जाए तो वे काफ़ी सुभेद्य (Vulnerable) भी होते हैं। जहाँ तक इन किशोरों का संबंध है समाज के समक्ष अनेक चुनौतियाँ हैं, जिनमें से कुछ विवाह की निम्न आयु, निरक्षरता, विशेषतः स्त्री निरक्षरता, विद्यालय विरतछात्र, पोषकों की निम्न ग्राह्यता, किशोर माताओं में उच्च मातृ मृत्यु दर, एच.आई.वी. / एड्स के संक्रमण के उच्च दरें, शारीरिक और मानसिक अपंगता अथवा मंदता, औषध दुरुपयोग और मदिरा सेवन किशोर अपचार और अपराध करना इत्यादि हैं।

इन तथ्यों को दृष्टिगत रखते हुए भारत सरकार ने किशोर वर्गों को उपयुक्त शिक्षा प्रदान करने के लिए कुछ निश्चित नीतियाँ बनाई हैं ताकि उनके गुणों का बेहतर मार्गदर्शन और उपयुक्त उपयोग किया जा सके। राष्ट्रीय युवा नीति एक ऐसा उदाहरण है जिसे हमारी विशाल, युवा और किशोर जनसंख्या के समग्र विकास की देखरेख हेतु अभिकल्पित किया गया है।

राष्ट्रीय युवा नीति (NYP-2014) फरवरी 2014 में आरंभ की गई है जो भारत के युवाओं के लिए एक समग्र दूरदर्शी प्रस्ताव रखती है। "देश के युवाओं को अपनी पूरी क्षमता का उपयोग करने के लिए सक्षम बनाना और उनके द्वारा भारत को राष्ट्रों के समूह में अपना उचित स्थान प्राप्त करने में सक्षम बनाना है।" राष्ट्रीय युवा नीति 2014, 15-29 वर्ष के आयु समूह के व्यक्ति को 'युवा' के रूप में परिभाषित करती है।

2011 की जनगणना के अनुसार 10 से 19 वर्ष की आयु समूह की जनसंख्या _____ है।

1. 52.7%

2. 31.7%

3. 20.9%

4. 10.8%

Options :

485584109277. 1

485584109278. 2

485584109279. 3

485584109280. 4

General Test

Group Number :	4
Group Id :	485584605
Group Maximum Duration :	60
Group Minimum Duration :	60
Show Attended Group? :	No
Edit Attended Group? :	No
Break time :	0
Group Marks :	250
Is this Group for Examiner? :	No
Examiner permission :	Cant View
Show Progress Bar? :	No

General Test

Section Id :	485584693
Section Number :	1
Section type :	Online
Mandatory or Optional :	Mandatory
Number of Questions :	60
Number of Questions to be attempted :	50
Section Marks :	250
Enable Mark as Answered Mark for Review and Clear Response :	Yes
Maximum Instruction Time :	0
Sub-Section Number :	1
Sub-Section Id :	4855841973
Question Shuffling Allowed :	Yes
Is Section Default? :	null

Question Number : 151 Question Id : 48558426451 Question Type : MCQ Option Shuffling : No Is Question Mandatory : No Calculator : None Response Time : N.A Think Time : N.A Minimum Instruction Time : 0

Correct Marks : 5 Wrong Marks : 1

Question Key Details :

Key	Value
Comprehension	MCQ

In a school, ratio of number of boys to that of girls was 6:5. In the next year, number of boys increased by 20% and number of girls increased by 10% resulting in an increase of 119 students in the school. How many students were there in the school initially?

1. 680
2. 750
3. 770
4. 780

Options :

485584105801. 1
485584105802. 2
485584105803. 3
485584105804. 4

Question Number : 151 Question Id : 48558426451 Question Type : MCQ Option Shuffling : No Is Question Mandatory : No Calculator : None Response Time : N.A Think Time : N.A Minimum Instruction Time : 0

Correct Marks : 5 Wrong Marks : 1

Question Key Details :

Key	Value
Comprehension	MCQ

किसी स्कूल में लड़कों व लड़कियों की संख्या का अनुपात 6:5 था। अगले वर्ष, लड़कों की संख्या में 20% वृद्धि हुई तथा लड़कियों की संख्या में 10% वृद्धि हुई जिसके परिणामस्वरूप स्कूल में 119 छात्र बढ़ गए। आरम्भ में स्कूल में कितने छात्र थे?

1. 680
2. 750
3. 770
4. 780

Options :

485584105801. 1
485584105802. 2
485584105803. 3
485584105804. 4

Question Number : 152 Question Id : 48558426452 Question Type : MCQ Option Shuffling : No Is Question Mandatory : No Calculator : None Response Time : N.A Think Time : N.A Minimum Instruction Time : 0

Correct Marks : 5 Wrong Marks : 1

Question Key Details :

Key	Value
Comprehension	MCQ

If Anil's salary is 20% less than that of Rama, then by what percent is Rama's salary more than that of Anil?

1. 20%
2. 25%
3. 15%
4. 30%

Options :

485584105805. 1
485584105806. 2
485584105807. 3
485584105808. 4

Question Number : 152 Question Id : 48558426452 Question Type : MCQ Option Shuffling : No Is Question Mandatory : No Calculator : None Response Time : N.A Think Time : N.A Minimum Instruction Time : 0

Correct Marks : 5 Wrong Marks : 1

Question Key Details :

Key	Value
Comprehension	MCQ

यदि अनिल की आय रामा की आय से 20% कम है, तो रामा की आय अनिल की आय से कितने प्रतिशत अधिक है?

1. 20%
2. 25%
3. 15%
4. 30%

Options :

485584105805. 1
485584105806. 2
485584105807. 3
485584105808. 4

Question Number : 153 Question Id : 48558426453 Question Type : MCQ Option Shuffling : No Is Question Mandatory : No Calculator : None Response Time : N.A Think Time : N.A Minimum Instruction Time : 0

Correct Marks : 5 Wrong Marks : 1

Question Key Details :

Key	Value
Comprehension	MCQ

A shopkeeper sold $\frac{2}{3}$ of his stock of rice at a profit of 5% and the remaining stock at a loss of 2%. If his total profit was ₹1000, then the cost price of the whole stock of rice is:

1. ₹24,800
2. ₹32,600
3. ₹37,500
4. ₹48,000

Options :

485584105809. 1
485584105810. 2
485584105811. 3
485584105812. 4

Question Number : 153 Question Id : 48558426453 Question Type : MCQ Option Shuffling : No Is Question Mandatory : No Calculator : None Response Time : N.A Think Time : N.A Minimum Instruction Time : 0

Correct Marks : 5 Wrong Marks : 1

Question Key Details :

Key	Value
Comprehension	MCQ

एक दुकानदार ने अपने चावल भंडार के दो-तिहाई भाग को 5% लाभ पर बेचा तथा शेष बचे हुए भंडार को 2% हानि पर बेच दिया। यदि उसको कुल ₹1000 लाभ प्राप्त हुआ तो चावल के पूरे भंडार का क्रय मूल्य ज्ञात करो।

1. ₹24,800
2. ₹32,600
3. ₹37,500
4. ₹48,000

Options :

485584105809. 1
485584105810. 2
485584105811. 3
485584105812. 4

Question Number : 154 Question Id : 48558426454 Question Type : MCQ Option Shuffling : No Is Question Mandatory : No Calculator : None Response Time : N.A Think Time : N.A Minimum Instruction Time : 0

Correct Marks : 5 Wrong Marks : 1

Question Key Details :

Key	Value
Comprehension	MCQ

The value of a car depreciates every year by 10%. What will be its value after 3 years if its present value is ₹6,25,000?

1. ₹4,50,000
2. ₹4,52,250
3. ₹4,55,625
4. ₹4,62,500

Options :

485584105813. 1
485584105814. 2
485584105815. 3
485584105816. 4

Question Number : 154 Question Id : 48558426454 Question Type : MCQ Option Shuffling : No Is Question Mandatory : No Calculator : None Response Time : N.A Think Time : N.A Minimum Instruction Time : 0

Correct Marks : 5 Wrong Marks : 1

Question Key Details :

Key	Value
Comprehension	MCQ

किसी कार का प्रति वर्ष 10% अवमूल्यन हो जाता है। यदि इसका वर्तमान मूल्य ₹6,25,000 है तो 3 वर्षों के बाद इसका मूल्य क्या होगा?

1. ₹4,50,000
2. ₹4,52,250
3. ₹4,55,625
4. ₹4,62,500

Options :

485584105813. 1
485584105814. 2
485584105815. 3
485584105816. 4

Question Number : 155 Question Id : 48558426455 Question Type : MCQ Option Shuffling : No Is Question Mandatory : No Calculator : None Response Time : N.A Think Time : N.A Minimum Instruction Time : 0

Correct Marks : 5 Wrong Marks : 1

Question Key Details :

Key	Value
Comprehension	MCQ

In how many years a sum placed on compound interest becomes 8 times of itself, if it becomes twice in 6 years?

1. 20
2. 18
3. 15
4. 12

Options :

485584105817. 1
485584105818. 2
485584105819. 3
485584105820. 4

Question Number : 155 Question Id : 48558426455 Question Type : MCQ Option Shuffling : No Is Question Mandatory : No Calculator : None Response Time : N.A Think Time : N.A Minimum Instruction Time : 0

Correct Marks : 5 Wrong Marks : 1

Question Key Details :

Key	Value
Comprehension	MCQ

चक्रवृद्धि ब्याज पर कोई राशि 6 वर्षों में दो गुना हो जाती है तो यह कितने वर्षों में 8 गुना हो जाएगी?

1. 20
2. 18
3. 15
4. 12

Options :

485584105817. 1
485584105818. 2
485584105819. 3
485584105820. 4

Question Number : 156 Question Id : 48558426456 Question Type : MCQ Option Shuffling : No Is Question Mandatory : No Calculator : None Response Time : N.A Think Time : N.A Minimum Instruction Time : 0

Correct Marks : 5 Wrong Marks : 1

Question Key Details :

Key	Value
Comprehension	MCQ

The ratio between length and breadth of a rectangle is 3:2. If area of the rectangle is 96 cm^2 , then length of the rectangle is

1. 6 cm
2. 12 cm
3. 8 cm
4. 16 cm

Options :

485584105821. 1
485584105822. 2

485584105823. 3
485584105824. 4

Question Number : 156 Question Id : 48558426456 Question Type : MCQ Option Shuffling : No Is Question Mandatory : No Calculator : None
Response Time : N.A Think Time : N.A Minimum Instruction Time : 0

Correct Marks : 5 Wrong Marks : 1

Question Key Details :

Key	Value
Comprehension	MCQ

किसी आयत की लम्बाई तथा चौड़ाई का अनुपात 3:2 है। यदि इस आयत का क्षेत्रफल 96 cm^2 है, तो इस आयत की लम्बाई ज्ञात करो।

1. 6 cm
2. 12 cm
3. 8 cm
4. 16 cm

Options :

485584105821. 1
485584105822. 2
485584105823. 3
485584105824. 4

Question Number : 157 Question Id : 48558426457 Question Type : MCQ Option Shuffling : No Is Question Mandatory : No Calculator : None
Response Time : N.A Think Time : N.A Minimum Instruction Time : 0

Correct Marks : 5 Wrong Marks : 1

Question Key Details :

Key	Value
Comprehension	MCQ

If two squares X and Y have each side of 10 m and 20 m respectively, then the side of the square Z whose area is equal to the sum of the areas of square X and square Y is:

1. $10\sqrt{3}$ m
2. $10\sqrt{2}$ m
3. $10\sqrt{7}$ m
4. $10\sqrt{5}$ m

Options :

485584105825. 1
485584105826. 2
485584105827. 3
485584105828. 4

Question Number : 157 Question Id : 48558426457 Question Type : MCQ Option Shuffling : No Is Question Mandatory : No Calculator : None
Response Time : N.A Think Time : N.A Minimum Instruction Time : 0

Correct Marks : 5 Wrong Marks : 1

Question Key Details :

Key	Value
Comprehension	MCQ

यदि दो वर्गों X तथा Y की प्रत्येक भुजा क्रमशः 10 m तथा 20 m लंबी है, तो वर्ग Z जिसका क्षेत्रफल X तथा Y वर्गों के क्षेत्रफलों के योग के बराबर है, की भुजा की लम्बाई क्या होगी?

1. $10\sqrt{3}$ m
2. $10\sqrt{2}$ m
3. $10\sqrt{7}$ m
4. $10\sqrt{5}$ m

Options :

485584105825. 1
485584105826. 2
485584105827. 3
485584105828. 4

Question Number : 158 Question Id : 48558426458 Question Type : MCQ Option Shuffling : No Is Question Mandatory : No Calculator : None Response Time : N.A Think Time : N.A Minimum Instruction Time : 0

Correct Marks : 5 Wrong Marks : 1

Question Key Details :

Key	Value
Comprehension	MCQ

If A (2,3), B(2,4) C(4,9) and D (x,8) are the vertices of a parallelogram ABCD, then find the value of x.

1. 8
2. 16
3. 5
4. 4

Options :

485584105829. 1
485584105830. 2
485584105831. 3
485584105832. 4

Question Number : 158 Question Id : 48558426458 Question Type : MCQ Option Shuffling : No Is Question Mandatory : No Calculator : None Response Time : N.A Think Time : N.A Minimum Instruction Time : 0

Correct Marks : 5 Wrong Marks : 1

Question Key Details :

Key	Value
Comprehension	MCQ

यदि किसी समांतर चतुर्भुज ABCD के शीर्ष A (2,3), B(2,4) C(4,9) तथा D (x,8) हैं, तो x का मान ज्ञात करो।

1. 8
2. 16
3. 5
4. 4

Options :

485584105829. 1
485584105830. 2
485584105831. 3
485584105832. 4

Question Number : 159 Question Id : 48558426459 Question Type : MCQ Option Shuffling : No Is Question Mandatory : No Calculator : None Response Time : N.A Think Time : N.A Minimum Instruction Time : 0

Correct Marks : 5 Wrong Marks : 1

Question Key Details :

Key	Value
Comprehension	MCQ

Mean, Median and Mode of a data are related by the relation

1. $3 \text{ Mode} - 2 \text{ Median} = \text{Mean}$

2. $3 \text{ Mean} - 2 \text{ Mode} = \text{Median}$

3. $3 \text{ Median} - 2 \text{ Mode} = \text{Mean}$

4. $3 \text{ Median} - 2 \text{ Mean} = \text{Mode}$

Options :

485584105833. 1

485584105834. 2

485584105835. 3

485584105836. 4

Question Number : 159 Question Id : 48558426459 Question Type : MCQ Option Shuffling : No Is Question Mandatory : No Calculator : None Response Time : N.A Think Time : N.A Minimum Instruction Time : 0

Correct Marks : 5 Wrong Marks : 1

Question Key Details :

Key	Value
Comprehension	MCQ

आँकड़ों के माध्य, माधिका तथा बहुलक में क्या संबंध होता है?

1. $3 \text{ बहुलक} - 2 \text{ माधिका} = \text{माध्य}$

2. $3 \text{ माध्य} - 2 \text{ बहुलक} = \text{माधिका}$

3. $3 \text{ माधिका} - 2 \text{ बहुलक} = \text{माध्य}$

4. $3 \text{ माधिका} - 2 \text{ माध्य} = \text{बहुलक}$

Options :

485584105833. 1

485584105834. 2

485584105835. 3

485584105836. 4

Question Number : 160 Question Id : 48558426460 Question Type : MCQ Option Shuffling : No Is Question Mandatory : No Calculator : None Response Time : N.A Think Time : N.A Minimum Instruction Time : 0

Correct Marks : 5 Wrong Marks : 1

Question Key Details :

Key	Value
Comprehension	MCQ

Three dice are thrown. The probability of getting a sum of numbers which is a perfect cube, is:

1. $\frac{1}{6}$

2. $\frac{1}{8}$

3. $\frac{5}{36}$

4. $\frac{7}{72}$

Options :

485584105837. 1

485584105838. 2

485584105839. 3

485584105840. 4

Question Number : 160 Question Id : 48558426460 Question Type : MCQ Option Shuffling : No Is Question Mandatory : No Calculator : None Response Time : N.A Think Time : N.A Minimum Instruction Time : 0

Correct Marks : 5 Wrong Marks : 1

Question Key Details :

Key	Value
Comprehension	MCQ

तीन पासे फेंके गए। तीनों संख्याओं के योग पूर्ण घन होने की प्रायिकता क्या होगी?

1. $\frac{1}{6}$

2. $\frac{1}{8}$

3. $\frac{5}{36}$

4. $\frac{7}{72}$

Options :

485584105837. 1

485584105838. 2

485584105839. 3

485584105840. 4

Question Number : 161 Question Id : 48558426461 Question Type : MCQ Option Shuffling : No Is Question Mandatory : No Calculator : None Response Time : N.A Think Time : N.A Minimum Instruction Time : 0

Correct Marks : 5 Wrong Marks : 1

Question Key Details :

Key	Value
Comprehension	MCQ

If the average of 15, 25, 19, 20, 23, 18 and $(x - 3)$ is 20. then Find the average of x , $(x + 6)$, $(2x - 1)$ and 23.

1. 20
2. 27
3. $28\frac{1}{2}$
4. 30

Options :

485584105841. 1
485584105842. 2
485584105843. 3
485584105844. 4

Question Number : 161 Question Id : 48558426461 Question Type : MCQ Option Shuffling : No Is Question Mandatory : No Calculator : None Response Time : N.A Think Time : N.A Minimum Instruction Time : 0

Correct Marks : 5 Wrong Marks : 1

Question Key Details :

Key	Value
Comprehension	MCQ

यदि 15, 25, 19, 20, 23, 18 तथा $(x - 3)$ का औसत 20 है। तो x , $(x + 6)$, $(2x - 1)$ तथा 23 का औसत ज्ञात करें।

1. 20
2. 27
3. $28\frac{1}{2}$
4. 30

Options :

485584105841. 1
485584105842. 2
485584105843. 3
485584105844. 4

Question Number : 162 Question Id : 48558426462 Question Type : MCQ Option Shuffling : No Is Question Mandatory : No Calculator : None Response Time : N.A Think Time : N.A Minimum Instruction Time : 0

Correct Marks : 5 Wrong Marks : 1

Question Key Details :

Key	Value
Comprehension	MCQ

The average of a positive number, its square and 3 is 5. Find the number.

1. 2
2. 3
3. 1
4. 4

Options :

485584105845. 1
485584105846. 2
485584105847. 3
485584105848. 4

Question Number : 162 Question Id : 48558426462 Question Type : MCQ Option Shuffling : No Is Question Mandatory : No Calculator : None Response Time : N.A Think Time : N.A Minimum Instruction Time : 0

Correct Marks : 5 Wrong Marks : 1

Question Key Details :

Key	Value
Comprehension	MCQ

किसी धनात्मक संख्या, उसके वर्ग तथा 3 का औसत 5 है। तो वह संख्या ज्ञात करो।

1. 2
2. 3
3. 1
4. 4

Options :

485584105845. 1
485584105846. 2
485584105847. 3
485584105848. 4

Question Number : 163 Question Id : 48558426463 Question Type : MCQ Option Shuffling : No Is Question Mandatory : No Calculator : None Response Time : N.A Think Time : N.A Minimum Instruction Time : 0

Correct Marks : 5 Wrong Marks : 1

Question Key Details :

Key	Value
Comprehension	MCQ

If $\cos 6\theta = \sin 3\theta$, then the value of θ is:

1. 9°
2. 12°
3. 10°
4. 6°

Options :

485584105849. 1
485584105850. 2
485584105851. 3
485584105852. 4

Question Number : 163 Question Id : 48558426463 Question Type : MCQ Option Shuffling : No Is Question Mandatory : No Calculator : None Response Time : N.A Think Time : N.A Minimum Instruction Time : 0

Correct Marks : 5 Wrong Marks : 1

Question Key Details :

Key	Value
Comprehension	MCQ

यदि $\cos 6\theta = \sin 3\theta$ है, तो θ का मान क्या है?

1. 9°
2. 12°
3. 10°
4. 6°

Options :

485584105849. 1
485584105850. 2
485584105851. 3
485584105852. 4

Question Number : 164 Question Id : 48558426464 Question Type : MCQ Option Shuffling : No Is Question Mandatory : No Calculator : None
Response Time : N.A Think Time : N.A Minimum Instruction Time : 0

Correct Marks : 5 Wrong Marks : 1

Question Key Details :

Key	Value
Comprehension	MCQ

A solid hemisphere of radius 24 cm is melted and identical cones each of base radius 8 cm and height 6 cm are formed. How many such cones are formed?

1. 144
2. 96
3. 72
4. 24

Options :

- 485584105853. 1
- 485584105854. 2
- 485584105855. 3
- 485584105856. 4

Question Number : 164 Question Id : 48558426464 Question Type : MCQ Option Shuffling : No Is Question Mandatory : No Calculator : None
Response Time : N.A Think Time : N.A Minimum Instruction Time : 0

Correct Marks : 5 Wrong Marks : 1

Question Key Details :

Key	Value
Comprehension	MCQ

एक ठोस अर्धगोला, जिसकी त्रिज्या 24 cm है, को पिघलाकर के आधारीय त्रिज्या 8 cm तथा ऊंचाई 6 cm वाले समान शंकु बनाए गए। इस प्रकार बने शंकुओं की संख्या ज्ञात करें।

1. 144
2. 96
3. 72
4. 24

Options :

- 485584105853. 1
- 485584105854. 2
- 485584105855. 3
- 485584105856. 4

Question Number : 165 Question Id : 48558426465 Question Type : MCQ Option Shuffling : No Is Question Mandatory : No Calculator : None
Response Time : N.A Think Time : N.A Minimum Instruction Time : 0

Correct Marks : 5 Wrong Marks : 1

Question Key Details :

Key	Value
Comprehension	MCQ

A and B can do a work in 10 days and 15 days respectively. They worked together for 5 days, then B left the work and A alone did the remaining work. The whole work got completed in:

1. $6\frac{2}{3}$ days

2. 7 days

3. $7\frac{1}{2}$ days

4. $6\frac{1}{2}$ days

Options :

485584105857. 1

485584105858. 2

485584105859. 3

485584105860. 4

Question Number : 165 Question Id : 48558426465 Question Type : MCQ Option Shuffling : No Is Question Mandatory : No Calculator : None Response Time : N.A Think Time : N.A Minimum Instruction Time : 0

Correct Marks : 5 Wrong Marks : 1

Question Key Details :

Key	Value
Comprehension	MCQ

A तथा B किसी कार्य को क्रमशः 10 तथा 15 दिनों में पूरा कर सकते हैं। उन्होंने 5 दिन मिलकर कार्य किया और फिर B ने कार्य छोड़ दिया। अगर अकेले A ने ही बाकी बचे हुए कार्य को पूरा किया। तो पूरा कार्य कितने दिनों में सम्पन्न हुआ?

1. $6\frac{2}{3}$ दिन

2. 7 दिन

3. $7\frac{1}{2}$ दिन

4. $6\frac{1}{2}$ दिन

Options :

485584105857. 1

485584105858. 2

485584105859. 3

485584105860. 4

Question Number : 166 Question Id : 48558426466 Question Type : MCQ Option Shuffling : No Is Question Mandatory : No Calculator : None Response Time : N.A Think Time : N.A Minimum Instruction Time : 0

Correct Marks : 5 Wrong Marks : 1

Question Key Details :

Key	Value
Comprehension	MCQ

A 180 m long train crosses a man standing on the platform in 6 seconds. What is the speed of the train?

1. 90 km/h

2. 108 km/h

3. 120 km/h

4. 88 km/h

Options :

485584105861. 1

485584105862. 2
485584105863. 3
485584105864. 4

Question Number : 166 Question Id : 48558426466 Question Type : MCQ Option Shuffling : No Is Question Mandatory : No Calculator : None Response Time : N.A Think Time : N.A Minimum Instruction Time : 0

Correct Marks : 5 Wrong Marks : 1

Question Key Details :

Key	Value
Comprehension	MCQ

180 मी. लम्बी एक रेलगाड़ी, प्लेटफॉर्म पर खड़े किसी व्यक्ति को अगर 6 सेकंड में पार करती है। तो रेलगाड़ी की गति क्या है।

1. 90 किमी./घंटा
2. 108 किमी./घंटा
3. 120 किमी./घंटा
4. 88 किमी./घंटा

Options :

485584105861. 1
485584105862. 2
485584105863. 3
485584105864. 4

Question Number : 167 Question Id : 48558426467 Question Type : MCQ Option Shuffling : No Is Question Mandatory : No Calculator : None Response Time : N.A Think Time : N.A Minimum Instruction Time : 0

Correct Marks : 5 Wrong Marks : 1

Question Key Details :

Key	Value
Comprehension	MCQ

Sourav completes a journey in $5\frac{1}{2}$ hours. If he covers half of the distance at 5 km/h and the remaining distance at 6 km/h, then find the total distance covered by him.

1. 30 km
2. 35 km
3. 33 km
4. 39 km

Options :

485584105865. 1
485584105866. 2
485584105867. 3
485584105868. 4

Question Number : 167 Question Id : 48558426467 Question Type : MCQ Option Shuffling : No Is Question Mandatory : No Calculator : None Response Time : N.A Think Time : N.A Minimum Instruction Time : 0

Correct Marks : 5 Wrong Marks : 1

Question Key Details :

Key	Value
Comprehension	MCQ

सौरव एक यात्रा को $5\frac{1}{2}$ घंटों में पूरा करता है। यदि वह आधी दूरी 5 किमी./घंटे की गति से तय करता है तथा बाकी बची हुई दूरी को 6 किमी./घंटे की गति से तय करता है, तो तय की गई कुल दूरी ज्ञात करें।

1. 30 किमी.
2. 35 किमी.
3. 33 किमी.
4. 39 किमी.

Options :

485584105865. 1
485584105866. 2
485584105867. 3
485584105868. 4

Question Number : 168 Question Id : 48558426468 Question Type : MCQ Option Shuffling : No Is Question Mandatory : No Calculator : None Response Time : N.A Think Time : N.A Minimum Instruction Time : 0

Correct Marks : 5 Wrong Marks : 1

Question Key Details :

Key	Value
Comprehension	MCQ

Simplify the following

$$\frac{(3+7) \times 2 - 4}{(3+7) \times (2-4)} + \frac{3+7 \times 2 - 5}{3+7 \times (2-5)}$$

1. 2
2. $-\frac{2}{5}$
3. $-\frac{22}{15}$
4. $-\frac{7}{5}$

Options :

485584105869. 1
485584105870. 2
485584105871. 3
485584105872. 4

Question Number : 168 Question Id : 48558426468 Question Type : MCQ Option Shuffling : No Is Question Mandatory : No Calculator : None Response Time : N.A Think Time : N.A Minimum Instruction Time : 0

Correct Marks : 5 Wrong Marks : 1

Question Key Details :

Key	Value
Comprehension	MCQ

सरल करें

$$\frac{(3+7) \times 2 - 4}{(3+7) \times (2-4)} + \frac{3+7 \times 2 - 5}{3+7 \times (2-5)}$$

1. 2

2. $-\frac{2}{5}$

3. $-\frac{22}{15}$

4. $-\frac{7}{5}$

Options :

485584105869. 1

485584105870. 2

485584105871. 3

485584105872. 4

Question Number : 169 Question Id : 48558426469 Question Type : MCQ Option Shuffling : No Is Question Mandatory : No Calculator : None Response Time : N.A Think Time : N.A Minimum Instruction Time : 0

Correct Marks : 5 Wrong Marks : 1

Question Key Details :

Key	Value
Comprehension	MCQ

Which of the following statements are true for rectangles?

- A. All interior angles are right angles.
- B. Diagonals are perpendicular to each other.
- C. Diagonals are equal.
- D. Opposite angles are supplementary

Choose the *correct answer* from the options given below:

- 1. A and B only
- 2. A and C only
- 3. A, B and C only
- 4. A, C and D only

Options :

485584105873. 1

485584105874. 2

485584105875. 3

485584105876. 4

Question Number : 169 Question Id : 48558426469 Question Type : MCQ Option Shuffling : No Is Question Mandatory : No Calculator : None Response Time : N.A Think Time : N.A Minimum Instruction Time : 0

Correct Marks : 5 Wrong Marks : 1

Question Key Details :

Key	Value
Comprehension	MCQ

आयतों के विषय में निम्न में से कौन से कथन सत्य हैं?

- A. सभी अंतःकोण समकोण होते हैं।
- B. विकर्ण एक दूसरे पर लम्ब होते हैं।
- C. विकर्ण बराबर होते हैं।
- D. सम्मुख कोण सम्पूरक होते हैं।

नीचे दिए गए विकल्पों में से सही उत्तर का चयन कीजिए

- 1. केवल A और B
- 2. केवल A और C
- 3. केवल A, B और C
- 4. केवल A, C और D

Options :

- 485584105873. 1
- 485584105874. 2
- 485584105875. 3
- 485584105876. 4

Question Number : 170 Question Id : 48558426470 Question Type : MCQ Option Shuffling : No Is Question Mandatory : No Calculator : None Response Time : N.A Think Time : N.A Minimum Instruction Time : 0

Correct Marks : 5 Wrong Marks : 1

Question Key Details :

Key	Value
Comprehension	MCQ

Which term of the A.P. 3, 7, 11,, 147 is its middle term?

- 1. 18th
- 2. 19th
- 3. 20th
- 4. 21st

Options :

- 485584105877. 1
- 485584105878. 2
- 485584105879. 3
- 485584105880. 4

Question Number : 170 Question Id : 48558426470 Question Type : MCQ Option Shuffling : No Is Question Mandatory : No Calculator : None Response Time : N.A Think Time : N.A Minimum Instruction Time : 0

Correct Marks : 5 Wrong Marks : 1

Question Key Details :

Key	Value
Comprehension	MCQ

समान्तर श्रेणी 3, 7, 11,, 147 का मध्य पद कौन सा है?

- 1. 18 वां
- 2. 19 वां
- 3. 20 वां
- 4. 21 वां

Options :

485584105877. 1
485584105878. 2
485584105879. 3
485584105880. 4

Question Number : 171 Question Id : 48558426471 Question Type : MCQ Option Shuffling : No Is Question Mandatory : No Calculator : None Response Time : N.A Think Time : N.A Minimum Instruction Time : 0

Correct Marks : 5 Wrong Marks : 1

Question Key Details :

Key	Value
Comprehension	MCQ

Which is the only metal that is Liquid at room Temperature?

1. Bromine
2. Mercury
3. Tungsten
4. Gallium

Options :

485584105881. 1
485584105882. 2
485584105883. 3
485584105884. 4

Question Number : 171 Question Id : 48558426471 Question Type : MCQ Option Shuffling : No Is Question Mandatory : No Calculator : None Response Time : N.A Think Time : N.A Minimum Instruction Time : 0

Correct Marks : 5 Wrong Marks : 1

Question Key Details :

Key	Value
Comprehension	MCQ

ऐसी कौन सी एकमात्र धातु है जो सामान्य तापमान पर तरल अवस्था में होती है?

1. ब्रोमीन
2. पारा
3. टंगस्टन
4. गैलियम

Options :

485584105881. 1
485584105882. 2
485584105883. 3
485584105884. 4

Question Number : 172 Question Id : 48558426472 Question Type : MCQ Option Shuffling : No Is Question Mandatory : No Calculator : None Response Time : N.A Think Time : N.A Minimum Instruction Time : 0

Correct Marks : 5 Wrong Marks : 1

Question Key Details :

Key	Value
Comprehension	MCQ

Who is the winner of UNESCO peace Prize 2022?

1. Volodymyr Zelenskyy
2. Tadashi Hattori
3. Swati Piramal
4. Angela Merkel

Options :

485584105885. 1
485584105886. 2
485584105887. 3
485584105888. 4

Question Number : 172 Question Id : 48558426472 Question Type : MCQ Option Shuffling : No Is Question Mandatory : No Calculator : None Response Time : N.A Think Time : N.A Minimum Instruction Time : 0

Correct Marks : 5 Wrong Marks : 1

Question Key Details :

Key	Value
Comprehension	MCQ

यूनेस्को शान्ति पुरस्कार 2022 का विजेता कौन है?

1. व्लादीमीर जेलेंस्की
2. तादाशी हट्टोरी
3. स्वाती पीरामल
4. एंजेला मर्केल

Options :

485584105885. 1
485584105886. 2
485584105887. 3
485584105888. 4

Question Number : 173 Question Id : 48558426473 Question Type : MCQ Option Shuffling : No Is Question Mandatory : No Calculator : None Response Time : N.A Think Time : N.A Minimum Instruction Time : 0

Correct Marks : 5 Wrong Marks : 1

Question Key Details :

Key	Value
Comprehension	MCQ

Match List I with List II

LIST I Name of Prime Ministers		LIST II Tenure	
A.	Shri. Inder Kumar Gujral	I.	1964-1966
B.	Morarji Desai	II.	1998-2004
C.	Atal Bihari Vajpayee	III.	1977-1979
D.	Lal Bahadur Shastri	IV.	1997-1998

Choose the **most appropriate** answer from the options given below:

1. A-III, B-II, C-I, D-IV
2. A-II, B-I, C-III D-IV
3. A-I, B-II, C-IV, D-III
4. A-IV, B-III, C-II, D-I

Options :

485584105889. 1
 485584105890. 2
 485584105891. 3
 485584105892. 4

Question Number : 173 Question Id : 48558426473 Question Type : MCQ Option Shuffling : No Is Question Mandatory : No Calculator : None
 Response Time : N.A Think Time : N.A Minimum Instruction Time : 0

Correct Marks : 5 Wrong Marks : 1

Question Key Details :

Key	Value
Comprehension	MCQ

सूची I का सूची II से मिलान कीजिए

सूची I		सूची II	
A.	श्री इंद्रकुमार गुजराल	I.	1964-1966
B.	मोरारजी देसाई	II.	1998-2004
C.	अटल बिहारी वाजपेयी	III.	1977-1979
D.	लाल बहादुर शास्त्री	IV.	1997-1998

निम्नलिखित विकल्पों में से सही उत्तर का चयन कीजिए :

1. A-III, B-II, C-I, D-IV
2. A-II, B-I, C-III D-IV
3. A-I, B-II, C-IV, D-III
4. A-IV, B-III, C-II, D-I

Options :

485584105889. 1
 485584105890. 2
 485584105891. 3
 485584105892. 4

Question Number : 174 Question Id : 48558426474 Question Type : MCQ Option Shuffling : No Is Question Mandatory : No Calculator : None
 Response Time : N.A Think Time : N.A Minimum Instruction Time : 0

Correct Marks : 5 Wrong Marks : 1

Question Key Details :

Key	Value
Comprehension	MCQ

Match List I with List II

LIST I Device		LIST II Purpose	
A.	Microphone	I.	Used in vehicles to measure distance
B.	Audiometer	II.	For measuring the force and velocity of wind
C.	Odometer	III.	Converts sound waves to electrical vibrations
D.	Anemometer	IV.	Measures intensity of sound

Choose the most appropriate answer from the options given below:

1. A-IV, B-III, C-II, D-I
2. A-III, B-IV, C-I, D-II
3. A-I, B-III, C-II, D-IV
4. A-II, B-III, C-IV, D-I

Options :

485584105893. 1
485584105894. 2
485584105895. 3
485584105896. 4

Question Number : 174 Question Id : 48558426474 Question Type : MCQ Option Shuffling : No Is Question Mandatory : No Calculator : None
Response Time : N.A Think Time : N.A Minimum Instruction Time : 0

Correct Marks : 5 Wrong Marks : 1

Question Key Details :

Key	Value
Comprehension	MCQ

सूची I का सूची II से मिलान कीजिए

सूची I		सूची II	
A.	माइक्रोफोन	I.	वाहनों में दूरी मापन के लिए उपयोग में लाया जाता है।
B.	श्रव्यतामापी	II.	वायु के बल तथा वेग के मापन के लिए
C.	पथमापी/दूरमापी	III.	ध्वनि तरंगों को वैद्युत कंपन में परिवर्तित करने के लिए
D.	पवनवेगमापी	IV.	ध्वनि की तीव्रता के मापन के लिए

निम्नलिखित विकल्पों में से सही उत्तर का चयन कीजिए :

1. A-IV, B-III, C-II, D-I
2. A-III, B-IV, C-I, D-II
3. A-I, B-III, C-II, D-IV
4. A-II, B-III, C-IV, D-I

Options :

485584105893. 1
485584105894. 2
485584105895. 3
485584105896. 4

Question Number : 175 Question Id : 48558426475 Question Type : MCQ Option Shuffling : No Is Question Mandatory : No Calculator : None
Response Time : N.A Think Time : N.A Minimum Instruction Time : 0

Correct Marks : 5 Wrong Marks : 1

Question Key Details :

Key	Value
Comprehension	MCQ

Consider the following statements:

- A. Antigen A and antibody 'a', Antigen 'B' and antibody 'b' cannot live together.
- B. Blood group 'O' is called universal Donor.
- C. Blood group 'AB' is called Universal Receptor.
- D. At the time of Blood transfusion RH-factor is also tested.
- E. Main function of blood platelets is to protect the body from the disease.

Choose the most appropriate answer from the options given below:

1. B, C, D and E only
2. A, B, C and D only
3. A and B only
4. C, D and E only

Options :

485584105897. 1

485584105898. 2
485584105899. 3
485584105900. 4

Question Number : 175 Question Id : 48558426475 Question Type : MCQ Option Shuffling : No Is Question Mandatory : No Calculator : None
Response Time : N.A Think Time : N.A Minimum Instruction Time : 0

Correct Marks : 5 Wrong Marks : 1

Question Key Details :

Key	Value
Comprehension	MCQ

निम्न कथनों को पढ़ें

- A. प्रतिजन A तथा प्रतिरक्षी 'a', प्रतिजन 'B' तथा प्रतिरक्षी 'b' एकसाथ नहीं रह सकते।
- B. रक्त समूह 'O' को सार्वत्रिक दाता कहते हैं।
- C. रक्त समूह 'AB' को सार्वत्रिक ग्राही कहते हैं।
- D. रक्त आधान के समय RH-कारक का परीक्षण भी किया जाता है।
- E. रक्त पट्टिकाओं का कार्य शरीर को रोगों से बचाना है।

नीचे दिए गए विकल्पों में से सबसे उपयुक्त उत्तर का चयन कीजिए:

1. केवल B, C, D और E
2. केवल A, B, C और D
3. केवल A और B
4. केवल C, D और E

Options :

485584105897. 1
485584105898. 2
485584105899. 3
485584105900. 4

Question Number : 176 Question Id : 48558426476 Question Type : MCQ Option Shuffling : No Is Question Mandatory : No Calculator : None
Response Time : N.A Think Time : N.A Minimum Instruction Time : 0

Correct Marks : 5 Wrong Marks : 1

Question Key Details :

Key	Value
Comprehension	MCQ

Simon commission came to India in _____ ?

1. 1925
2. 1927
3. 1923
4. 1930

Options :

485584105901. 1
485584105902. 2
485584105903. 3
485584105904. 4

Question Number : 176 Question Id : 48558426476 Question Type : MCQ Option Shuffling : No Is Question Mandatory : No Calculator : None
Response Time : N.A Think Time : N.A Minimum Instruction Time : 0

Correct Marks : 5 Wrong Marks : 1

Question Key Details :

Key	Value
Comprehension	MCQ

साइमन कमीशन भारत में कब आया?

1. 1925
2. 1927
3. 1923
4. 1930

Options :

485584105901. 1
485584105902. 2
485584105903. 3
485584105904. 4

Question Number : 177 Question Id : 48558426477 Question Type : MCQ Option Shuffling : No Is Question Mandatory : No Calculator : None Response Time : N.A Think Time : N.A Minimum Instruction Time : 0

Correct Marks : 5 Wrong Marks : 1

Question Key Details :

Key	Value
Comprehension	MCQ

Who was the first Indian Nobel Laureate?

1. Dr. C.V Raman
2. Dr. S. Radha Krishnan
3. Rabindranath Tagore
4. S.N. Bose

Options :

485584105905. 1
485584105906. 2
485584105907. 3
485584105908. 4

Question Number : 177 Question Id : 48558426477 Question Type : MCQ Option Shuffling : No Is Question Mandatory : No Calculator : None Response Time : N.A Think Time : N.A Minimum Instruction Time : 0

Correct Marks : 5 Wrong Marks : 1

Question Key Details :

Key	Value
Comprehension	MCQ

नोबेल पुरस्कार प्राप्त करने वाला प्रथम भारतीय कौन था?

1. सी. वी. रमन
2. डॉ एस. राधाकृष्णन
3. रवीन्द्रनाथ टैगोर
4. एस. एन. बोस

Options :

485584105905. 1
485584105906. 2
485584105907. 3
485584105908. 4

Question Number : 178 Question Id : 48558426478 Question Type : MCQ Option Shuffling : No Is Question Mandatory : No Calculator : None Response Time : N.A Think Time : N.A Minimum Instruction Time : 0

Correct Marks : 5 Wrong Marks : 1

Question Key Details :

Key	Value
Comprehension	MCQ

Who fought the battle of Tarain and won twice against Mohammad Ghori?

1. Maharana Pratap
2. Jai Chand
3. Rana Sangram Singh
4. Prithviraj Chauhan

Options :

485584105909. 1
485584105910. 2
485584105911. 3
485584105912. 4

Question Number : 178 Question Id : 48558426478 Question Type : MCQ Option Shuffling : No Is Question Mandatory : No Calculator : None
Response Time : N.A Think Time : N.A Minimum Instruction Time : 0

Correct Marks : 5 Wrong Marks : 1

Question Key Details :

Key	Value
Comprehension	MCQ

तराइन का युद्ध किसने लड़ा तथा मुहमद गौरी के विरुद्ध दो बार विजय प्राप्त की?

1. महाराणा प्रताप
2. जयचंद
3. राणा संग्राम सिंह
4. पृथ्वीराज चौहान

Options :

485584105909. 1
485584105910. 2
485584105911. 3
485584105912. 4

Question Number : 179 Question Id : 48558426479 Question Type : MCQ Option Shuffling : No Is Question Mandatory : No Calculator : None
Response Time : N.A Think Time : N.A Minimum Instruction Time : 0

Correct Marks : 5 Wrong Marks : 1

Question Key Details :

Key	Value
Comprehension	MCQ

Which of the following Mughal rulers set up a new religion called Din-i-Ilahi?

1. Aurangzeb
2. Humayun
3. Akbar
4. Shah Jahan

Options :

485584105913. 1
485584105914. 2
485584105915. 3

Question Number : 179 Question Id : 48558426479 Question Type : MCQ Option Shuffling : No Is Question Mandatory : No Calculator : None
Response Time : N.A Think Time : N.A Minimum Instruction Time : 0

Correct Marks : 5 Wrong Marks : 1

Question Key Details :

Key	Value
Comprehension	MCQ

निम्नलिखित में से किस मुगल शासक ने दीन-ए-इलाही नामक नए धर्म की स्थापना की?

1. औरंगजेब
2. हुमायूँ
3. अकबर
4. शाहजहाँ

Options :

485584105913. 1
485584105914. 2
485584105915. 3
485584105916. 4

Question Number : 180 Question Id : 48558426480 Question Type : MCQ Option Shuffling : No Is Question Mandatory : No Calculator : None
Response Time : N.A Think Time : N.A Minimum Instruction Time : 0

Correct Marks : 5 Wrong Marks : 1

Question Key Details :

Key	Value
Comprehension	MCQ

C.V. Raman got Nobel Prize in 1930 for his discovery of:

1. Research into the nature of chemical bonding
2. Raman Effect
3. Studies of the Photoelectric Effect
4. Discovery of the Phenomenon of Radioactivity

Options :

485584105917. 1
485584105918. 2
485584105919. 3
485584105920. 4

Question Number : 180 Question Id : 48558426480 Question Type : MCQ Option Shuffling : No Is Question Mandatory : No Calculator : None
Response Time : N.A Think Time : N.A Minimum Instruction Time : 0

Correct Marks : 5 Wrong Marks : 1

Question Key Details :

Key	Value
Comprehension	MCQ

सी. वी. रामन को उनकी किस खोज के लिए 1930 में नोबेल पुरस्कार प्राप्त हुआ?

1. रासायनिक बंधों की प्रकृति के विषय में अनुसंधान
2. रमन प्रभाव
3. प्रकाशविद्युत् प्रभाव का अध्ययन
4. रेडियो धर्मिता की परिघटना की खोज

Options :

485584105917. 1
485584105918. 2
485584105919. 3
485584105920. 4

Question Number : 181 Question Id : 48558426481 Question Type : MCQ Option Shuffling : No Is Question Mandatory : No Calculator : None Response Time : N.A Think Time : N.A Minimum Instruction Time : 0

Correct Marks : 5 Wrong Marks : 1

Question Key Details :

Key	Value
Comprehension	MCQ

The book titled "Exam Warriors" is written by:

1. L.K. Advani
2. P. Chindambaram
3. Jairam Ramesh
4. Narendra Modi

Options :

485584105921. 1
485584105922. 2
485584105923. 3
485584105924. 4

Question Number : 181 Question Id : 48558426481 Question Type : MCQ Option Shuffling : No Is Question Mandatory : No Calculator : None Response Time : N.A Think Time : N.A Minimum Instruction Time : 0

Correct Marks : 5 Wrong Marks : 1

Question Key Details :

Key	Value
Comprehension	MCQ

'एग्जाम वारियर्स' नामक पुस्तक के लेखक कौन हैं?

1. एल. के. आडवाणी
2. पी. चिदम्बरम
3. जयराम रमेश
4. नरेन्द्र मोदी

Options :

485584105921. 1
485584105922. 2
485584105923. 3
485584105924. 4

Question Number : 182 Question Id : 48558426482 Question Type : MCQ Option Shuffling : No Is Question Mandatory : No Calculator : None Response Time : N.A Think Time : N.A Minimum Instruction Time : 0

Correct Marks : 5 Wrong Marks : 1

Question Key Details :

Key	Value
Comprehension	MCQ

Justice DY Chandrachud has become the new _____ Chief Justice of India?

1. 55th

2. 50th

3. 45th

4. 52th

Options :

485584105925. 1

485584105926. 2

485584105927. 3

485584105928. 4

Question Number : 182 Question Id : 48558426482 Question Type : MCQ Option Shuffling : No Is Question Mandatory : No Calculator : None Response Time : N.A Think Time : N.A Minimum Instruction Time : 0

Correct Marks : 5 Wrong Marks : 1

Question Key Details :

Key	Value
Comprehension	MCQ

न्यायाधीश डी.वाई. चन्द्रचूड, भारत के _____ नये मुख्य न्यायाधीश बन गए हैं।

1. 55 वें

2. 50 वें

3. 45 वें

4. 52 वें

Options :

485584105925. 1

485584105926. 2

485584105927. 3

485584105928. 4

Question Number : 183 Question Id : 48558426483 Question Type : MCQ Option Shuffling : No Is Question Mandatory : No Calculator : None Response Time : N.A Think Time : N.A Minimum Instruction Time : 0

Correct Marks : 5 Wrong Marks : 1

Question Key Details :

Key	Value
Comprehension	MCQ

The _____ lies above the mesosphere?

1. Troposphere

2. Thermosphere

3. Exosphere

4. Stratosphere

Options :

485584105929. 1
485584105930. 2
485584105931. 3
485584105932. 4

Question Number : 183 Question Id : 48558426483 Question Type : MCQ Option Shuffling : No Is Question Mandatory : No Calculator : None Response Time : N.A Think Time : N.A Minimum Instruction Time : 0

Correct Marks : 5 Wrong Marks : 1

Question Key Details :

Key	Value
Comprehension	MCQ

_____ मध्य मंडल से ऊपर अवस्थित होता है।

1. क्षीभमंडल
2. तापमंडल
3. बहिमंडल
4. समतापमंडल

Options :

485584105929. 1
485584105930. 2
485584105931. 3
485584105932. 4

Question Number : 184 Question Id : 48558426484 Question Type : MCQ Option Shuffling : No Is Question Mandatory : No Calculator : None Response Time : N.A Think Time : N.A Minimum Instruction Time : 0

Correct Marks : 5 Wrong Marks : 1

Question Key Details :

Key	Value
Comprehension	MCQ

Lalit Kala Akademi, the National Academy of Art, was set up in _____

1. 1968
2. 1964
3. 1954
4. 1951

Options :

485584105933. 1
485584105934. 2
485584105935. 3
485584105936. 4

Question Number : 184 Question Id : 48558426484 Question Type : MCQ Option Shuffling : No Is Question Mandatory : No Calculator : None Response Time : N.A Think Time : N.A Minimum Instruction Time : 0

Correct Marks : 5 Wrong Marks : 1

Question Key Details :

Key	Value
Comprehension	MCQ

ललित कला अकादमी, जो राष्ट्रीय कला सस्थान है, की स्थापना कब हुई?

1. 1968
2. 1964
3. 1954
4. 1951

Options :

- 485584105933. 1
- 485584105934. 2
- 485584105935. 3
- 485584105936. 4

Question Number : 185 Question Id : 48558426485 Question Type : MCQ Option Shuffling : No Is Question Mandatory : No Calculator : None Response Time : N.A Think Time : N.A Minimum Instruction Time : 0

Correct Marks : 5 Wrong Marks : 1

Question Key Details :

Key	Value
Comprehension	MCQ

What is the prescribed strength of judges in the constitutional bench of supreme Court?

1. 2 Judges
2. At least 5 Judges
3. 3 judges
4. 4 judges

Options :

- 485584105937. 1
- 485584105938. 2
- 485584105939. 3
- 485584105940. 4

Question Number : 185 Question Id : 48558426485 Question Type : MCQ Option Shuffling : No Is Question Mandatory : No Calculator : None Response Time : N.A Think Time : N.A Minimum Instruction Time : 0

Correct Marks : 5 Wrong Marks : 1

Question Key Details :

Key	Value
Comprehension	MCQ

सर्वोच्च न्यायालय की संवैधानिक पीठ में न्यायाधीशों की कितनी संख्या निर्धारित की गई है?

1. 2 न्यायाधीश
2. कम से कम 5 न्यायाधीश
3. 3 न्यायाधीश
4. 4 न्यायाधीश

Options :

- 485584105937. 1
- 485584105938. 2
- 485584105939. 3
- 485584105940. 4

Question Number : 186 Question Id : 48558426486 Question Type : MCQ Option Shuffling : No Is Question Mandatory : No Calculator : None Response Time : N.A Think Time : N.A Minimum Instruction Time : 0

Correct Marks : 5 Wrong Marks : 1

Question Key Details :

Key	Value
Comprehension	MCQ

White revolution refers to _____ ?

1. Cotton textile Industry
2. Marble Industry
3. Cement Industry
4. Dairying

Options :

485584105941. 1
485584105942. 2
485584105943. 3
485584105944. 4

Question Number : 186 Question Id : 48558426486 Question Type : MCQ Option Shuffling : No Is Question Mandatory : No Calculator : None
Response Time : N.A Think Time : N.A Minimum Instruction Time : 0

Correct Marks : 5 Wrong Marks : 1

Question Key Details :

Key	Value
Comprehension	MCQ

श्वेत क्रांति किससे संबंधित है?

1. कपास वस्त्र उद्योग
2. मार्बल उद्योग
3. सीमेंट उद्योग
4. डेयरी उद्योग

Options :

485584105941. 1
485584105942. 2
485584105943. 3
485584105944. 4

Question Number : 187 Question Id : 48558426487 Question Type : MCQ Option Shuffling : No Is Question Mandatory : No Calculator : None
Response Time : N.A Think Time : N.A Minimum Instruction Time : 0

Correct Marks : 5 Wrong Marks : 1

Question Key Details :

Key	Value
Comprehension	MCQ

Match List I with List II

LIST I Mineral		LIST II States	
A.	Coal	I.	Madhya Pradesh
B.	Gold	II.	Gujarat
C.	Diamond	III.	Chattisgarh
D.	Petroleum	IV.	Karnataka

Choose the most appropriate answer from the options given below:

1. A-III, B-I, C-II, D-IV
2. A-III, B-IV, C-II, D-I
3. A-III, B-IV, C-I, D-II
4. A-IV, B-III, C-I, D-II

Options :

485584105945. 1
485584105946. 2
485584105947. 3
485584105948. 4

Question Number : 187 Question Id : 48558426487 Question Type : MCQ Option Shuffling : No Is Question Mandatory : No Calculator : None
Response Time : N.A Think Time : N.A Minimum Instruction Time : 0

Correct Marks : 5 Wrong Marks : 1

Question Key Details :

Key	Value
Comprehension	MCQ

सूची I का सूची II से मिलान कीजिए

सूची I		सूची II	
A.	कोयला	I.	मध्य प्रदेश
B.	सोना	II.	गुजरात
C.	हीरा	III.	छत्तीसगढ़
D.	पेट्रोलियम	IV.	कर्नाटक

निम्नलिखित विकल्पों में से सही उत्तर का चयन कीजिए :

1. A-III, B-I, C-II, D-IV
2. A-III, B-IV, C-II, D-I
3. A-III, B-IV, C-I, D-II
4. A-IV, B-III, C-I, D-II

Options :

485584105945. 1
485584105946. 2
485584105947. 3
485584105948. 4

Question Number : 188 Question Id : 48558426488 Question Type : MCQ Option Shuffling : No Is Question Mandatory : No Calculator : None
Response Time : N.A Think Time : N.A Minimum Instruction Time : 0

Correct Marks : 5 Wrong Marks : 1

Question Key Details :

Key	Value
Comprehension	MCQ

Largest salt water inland lake of India, which provides sanctuary to lakhs of Migratory Birds during winter?

1. Pachpadra Lake
2. Chilika Lake
3. Pangong Lake
4. Lomar Lake

Options :

485584105949. 1
485584105950. 2
485584105951. 3
485584105952. 4

Question Number : 188 Question Id : 48558426488 Question Type : MCQ Option Shuffling : No Is Question Mandatory : No Calculator : None Response Time : N.A Think Time : N.A Minimum Instruction Time : 0

Correct Marks : 5 Wrong Marks : 1

Question Key Details :

Key	Value
Comprehension	MCQ

भारत की सबसे बड़ी खारे पानी वाली वह आंतरिक झील, जो शीतकाल में लाखों प्रवासी पक्षियों को अभ्यारण्य प्रदान करती है, कौन सी है?

1. पचपाद्रा झील
2. चिलिका झील
3. पैंगोंग झील
4. लोमार झील

Options :

485584105949. 1
485584105950. 2
485584105951. 3
485584105952. 4

Question Number : 189 Question Id : 48558426489 Question Type : MCQ Option Shuffling : No Is Question Mandatory : No Calculator : None Response Time : N.A Think Time : N.A Minimum Instruction Time : 0

Correct Marks : 5 Wrong Marks : 1

Question Key Details :

Key	Value
Comprehension	MCQ

The first vice-President of India was _____ ?

1. Dr. S. Radha Krishnan
2. Dr. Zakir Hussain
3. C. Rajagopalachari
4. Krishan Kant

Options :

485584105953. 1
485584105954. 2
485584105955. 3
485584105956. 4

Question Number : 189 Question Id : 48558426489 Question Type : MCQ Option Shuffling : No Is Question Mandatory : No Calculator : None Response Time : N.A Think Time : N.A Minimum Instruction Time : 0

Correct Marks : 5 Wrong Marks : 1

Question Key Details :

Key	Value
Comprehension	MCQ

भारत के प्रथम उप-राष्ट्रपति कौन थे?

1. डॉ. एस. राधाकृष्णन
2. डॉ. ज़ाकिर हुसैन
3. सी. राजगोपालाचारी
4. कृष्णकान्त

Options :

485584105953. 1
485584105954. 2
485584105955. 3
485584105956. 4

Question Number : 190 Question Id : 48558426490 Question Type : MCQ Option Shuffling : No Is Question Mandatory : No Calculator : None
Response Time : N.A Think Time : N.A Minimum Instruction Time : 0

Correct Marks : 5 Wrong Marks : 1

Question Key Details :

Key	Value
Comprehension	MCQ

'Shramev Jayate' scheme was announced on _____ by GOI.

1. 10 October, 2013
2. 16 October, 2014
3. 12 October, 2012
4. 13 October, 2015

Options :

485584105957. 1
485584105958. 2
485584105959. 3
485584105960. 4

Question Number : 190 Question Id : 48558426490 Question Type : MCQ Option Shuffling : No Is Question Mandatory : No Calculator : None
Response Time : N.A Think Time : N.A Minimum Instruction Time : 0

Correct Marks : 5 Wrong Marks : 1

Question Key Details :

Key	Value
Comprehension	MCQ

भारत सरकार द्वारा 'श्रमेव जयते' योजना की घोषणा कब की गई थी?

1. 10 अक्टूबर, 2013
2. 16 अक्टूबर, 2014
3. 12 अक्टूबर, 2012
4. 13 अक्टूबर, 2015

Options :

485584105957. 1
485584105958. 2

485584105959. 3
485584105960. 4

Question Number : 191 Question Id : 48558426491 Question Type : MCQ Option Shuffling : No Is Question Mandatory : No Calculator : None
Response Time : N.A Think Time : N.A Minimum Instruction Time : 0

Correct Marks : 5 Wrong Marks : 1

Question Key Details :

Key	Value
Comprehension	MCQ

Given below are two statements: one is labelled as **Assertion A** and the other is labelled as **Reason R**.

Assertion A : Forest cutting is desirable from the point of view of soil erosion.

Reason R : Cutting of forests reduces the interception of rain water.

In the light of the above statements, choose the *correct* answer from the options given below.

1. Both A and R are true and r is the correct explanation of A
2. Both A and R are true but R is NOT the correct explanation of A
3. A is true but R is false
4. A is false but R is true

Options :

485584105961. 1
485584105962. 2
485584105963. 3
485584105964. 4

Question Number : 191 Question Id : 48558426491 Question Type : MCQ Option Shuffling : No Is Question Mandatory : No Calculator : None
Response Time : N.A Think Time : N.A Minimum Instruction Time : 0

Correct Marks : 5 Wrong Marks : 1

Question Key Details :

Key	Value
Comprehension	MCQ

नीचे दो कथन दिए गए हैं : एक अभिकथन (Assertion A) के रूप में लिखित है तो दूसरा उसके कारण (Reason R) के रूप में

अभिकथन A : मृदा अपरदन के दृष्टिकोण से वनों के काटने की आवश्यकता है।

कारण R : वनों को काटने से वर्षा के जल का अंतरावरोधन कम हो जाता है।

उपरोक्त कथन के आलोक में, नीचे दिए विकल्पों में से सही उत्तर का चयन कीजिए :

1. A और R दोनों सत्य हैं और R, A की सही व्याख्या है
2. A और R दोनों सत्य हैं और R, A की सही व्याख्या नहीं है
3. A सत्य है, लेकिन R असत्य है
4. A असत्य है, लेकिन R सत्य है

Options :

485584105961. 1
485584105962. 2
485584105963. 3
485584105964. 4

Question Number : 192 Question Id : 48558426492 Question Type : MCQ Option Shuffling : No Is Question Mandatory : No Calculator : None
Response Time : N.A Think Time : N.A Minimum Instruction Time : 0

Correct Marks : 5 Wrong Marks : 1

Question Key Details :

Key	Value
Comprehension	MCQ

Find the odd one out from the given series

3, 12, 27, 48, 76, 108

1. 27

2. 48

3. 76

4. 108

Options :

485584105965. 1

485584105966. 2

485584105967. 3

485584105968. 4

Question Number : 192 Question Id : 48558426492 Question Type : MCQ Option Shuffling : No Is Question Mandatory : No Calculator : None Response Time : N.A Think Time : N.A Minimum Instruction Time : 0

Correct Marks : 5 Wrong Marks : 1

Question Key Details :

Key	Value
Comprehension	MCQ

दी गई श्रृंखला में जो सबसे भिन्न है उसे ज्ञात करो।

3, 12, 27, 48, 76, 108

1. 27

2. 48

3. 76

4. 108

Options :

485584105965. 1

485584105966. 2

485584105967. 3

485584105968. 4

Question Number : 193 Question Id : 48558426493 Question Type : MCQ Option Shuffling : No Is Question Mandatory : No Calculator : None Response Time : N.A Think Time : N.A Minimum Instruction Time : 0

Correct Marks : 5 Wrong Marks : 1

Question Key Details :

Key	Value
Comprehension	MCQ

Choose that set of numbers from the four alternative sets, that is similar to the given set.

Given set: (265, 392, 285)

1. (373, 472, 366)

2. (343, 482, 360)

3. (363, 482, 361)

4. (373, 482, 366)

Options :

485584105969. 1
485584105970. 2
485584105971. 3
485584105972. 4

Question Number : 193 Question Id : 48558426493 Question Type : MCQ Option Shuffling : No Is Question Mandatory : No Calculator : None Response Time : N.A Think Time : N.A Minimum Instruction Time : 0

Correct Marks : 5 Wrong Marks : 1

Question Key Details :

Key	Value
Comprehension	MCQ

संख्याओं के विकल्पित समुच्चयों में से नीचे दिए गए समुच्चय के समरूप का चयन करें।

दिया गया समुच्चय : (265, 392, 285)

1. (373, 472, 366)
2. (343, 482, 360)
3. (363, 482, 361)
4. (373, 482, 366)

Options :

485584105969. 1
485584105970. 2
485584105971. 3
485584105972. 4

Question Number : 194 Question Id : 48558426494 Question Type : MCQ Option Shuffling : No Is Question Mandatory : No Calculator : None Response Time : N.A Think Time : N.A Minimum Instruction Time : 0

Correct Marks : 5 Wrong Marks : 1

Question Key Details :

Key	Value
Comprehension	MCQ

If some word are coded from artificial language, like

"Botlo Pono" means Drink water

"Maroh pono" means chew water

"Pono ajebo" means save water

Which code could mean "Save Drink"?

1. Botlo ajebo
2. Botlo pono
3. Pono ajebo
4. Maroh Botlo

Options :

485584105973. 1
485584105974. 2
485584105975. 3
485584105976. 4

Question Number : 194 Question Id : 48558426494 Question Type : MCQ Option Shuffling : No Is Question Mandatory : No Calculator : None Response Time : N.A Think Time : N.A Minimum Instruction Time : 0

Correct Marks : 5 Wrong Marks : 1

Question Key Details :

Key	Value
-----	-------

किसी कृत्रिम भाषा से कुछ शब्दों को इस प्रकार लिखा गया।

"Botlo Pono" अर्थात Drink water

"Maroh pono" अर्थात chew water

"Pono ajebo" अर्थात save water

किस कूट का अर्थ "Save Drink" होगा

1. Botlo ajebo
2. Botlo pono
3. Pono ajebo
4. Maroh Botlo

Options :

485584105973. 1
485584105974. 2
485584105975. 3
485584105976. 4

Question Number : 195 Question Id : 48558426495 Question Type : MCQ Option Shuffling : No Is Question Mandatory : No Calculator : None Response Time : N.A Think Time : N.A Minimum Instruction Time : 0

Correct Marks : 5 Wrong Marks : 1

Question Key Details :

Key	Value
Comprehension	MCQ

If today is saturday, then day after 53 days will be:

1. Friday
2. Monday
3. Tuesday
4. Wednesday

Options :

485584105977. 1
485584105978. 2
485584105979. 3
485584105980. 4

Question Number : 195 Question Id : 48558426495 Question Type : MCQ Option Shuffling : No Is Question Mandatory : No Calculator : None Response Time : N.A Think Time : N.A Minimum Instruction Time : 0

Correct Marks : 5 Wrong Marks : 1

Question Key Details :

Key	Value
Comprehension	MCQ

यदि आज शनिवार है, तो 53 दिनों के बाद सप्ताह का कौन सा दिन होगा?

1. शुक्रवार
2. सोमवार
3. मंगलवार
4. बुधवार

Options :

485584105977. 1
485584105978. 2
485584105979. 3
485584105980. 4

Question Number : 196 Question Id : 48558426496 Question Type : MCQ Option Shuffling : No Is Question Mandatory : No Calculator : None Response Time : N.A Think Time : N.A Minimum Instruction Time : 0

Correct Marks : 5 Wrong Marks : 1

Question Key Details :

Key	Value
Comprehension	MCQ

Akshay is the son of Kapil. Simar, Kapil's sister, has a son Montu and daughter Sara. Pawan is the maternal uncle of Montu. How is Akshay related to Montu?

1. Sister-in-law
2. Mother
3. Sister
4. Cousin

Options :

485584105981. 1
485584105982. 2
485584105983. 3
485584105984. 4

Question Number : 196 Question Id : 48558426496 Question Type : MCQ Option Shuffling : No Is Question Mandatory : No Calculator : None Response Time : N.A Think Time : N.A Minimum Instruction Time : 0

Correct Marks : 5 Wrong Marks : 1

Question Key Details :

Key	Value
Comprehension	MCQ

अक्षय, कपिल का बेटा है, कपिल की बहन सिमर का पुत्र मोन्टू तथा पुत्री सारा है। पवन, मोन्टू का मामा है। अक्षय का मोन्टू के साथ क्या संबंध है?

1. ननद
2. माँ
3. बहन
4. चचेरा भाई

Options :

485584105981. 1
485584105982. 2
485584105983. 3
485584105984. 4

Question Number : 197 Question Id : 48558426497 Question Type : MCQ Option Shuffling : No Is Question Mandatory : No Calculator : None
Response Time : N.A Think Time : N.A Minimum Instruction Time : 0

Correct Marks : 5 Wrong Marks : 1

Question Key Details :

Key	Value
Comprehension	MCQ

How many times in a day hour hand and minute hand of a clock will coincide?

1. 24 times

2. 22 times

3. 44 times

4. 48 times

Options :

485584105985. 1

485584105986. 2

485584105987. 3

485584105988. 4

Question Number : 197 Question Id : 48558426497 Question Type : MCQ Option Shuffling : No Is Question Mandatory : No Calculator : None
Response Time : N.A Think Time : N.A Minimum Instruction Time : 0

Correct Marks : 5 Wrong Marks : 1

Question Key Details :

Key	Value
Comprehension	MCQ

एक दिन में कितनी बार घड़ी की घंटे की सुई तथा मिनट की सुई एक दूसरे पर आच्छादित होती है?

1. 24 बार

2. 22 बार

3. 44 बार

4. 48 बार

Options :

485584105985. 1

485584105986. 2

485584105987. 3

485584105988. 4

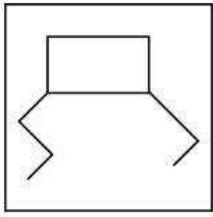
Question Number : 198 Question Id : 48558426498 Question Type : MCQ Option Shuffling : No Is Question Mandatory : No Calculator : None
Response Time : N.A Think Time : N.A Minimum Instruction Time : 0

Correct Marks : 5 Wrong Marks : 1

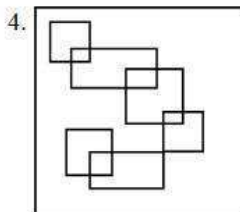
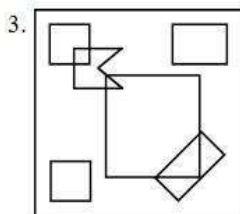
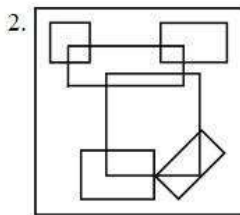
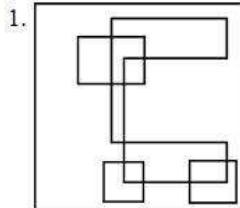
Question Key Details :

Key	Value
Comprehension	MCQ

Find the alternative which contains figure (A) as its part.



(A)



Options :

- 485584105989. 1
- 485584105990. 2
- 485584105991. 3
- 485584105992. 4

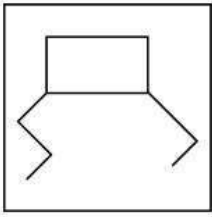
Question Number : 198 Question Id : 48558426498 Question Type : MCQ Option Shuffling : No Is Question Mandatory : No Calculator : None
Response Time : N.A Think Time : N.A Minimum Instruction Time : 0

Correct Marks : 5 Wrong Marks : 1

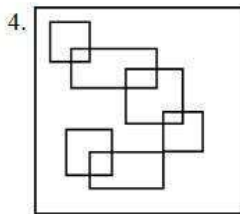
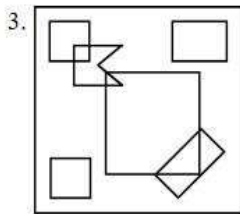
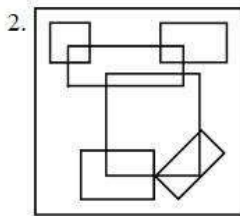
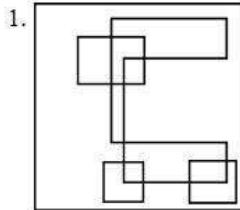
Question Key Details :

Key	Value
Comprehension	MCQ

विकल्पों में से उस चित्र को चुनें जिसका चित्र (A) एक भाग है।



(A)



Options :

485584105989. 1

485584105990. 2

485584105991. 3

485584105992. 4

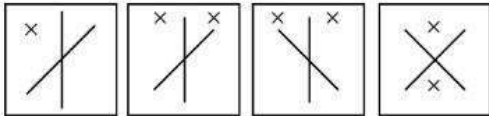
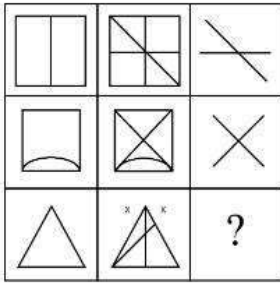
Question Number : 199 Question Id : 48558426499 Question Type : MCQ Option Shuffling : No Is Question Mandatory : No Calculator : None Response Time : N.A Think Time : N.A Minimum Instruction Time : 0

Correct Marks : 5 Wrong Marks : 1

Question Key Details :

Key	Value
Comprehension	MCQ

Find out which of the answer figures (A), (B), (C) and (D) completes the figure matrix



(A) (B) (C) (D)

1. A
2. B
3. C
4. D

Options :

- 485584105993. 1
- 485584105994. 2
- 485584105995. 3
- 485584105996. 4

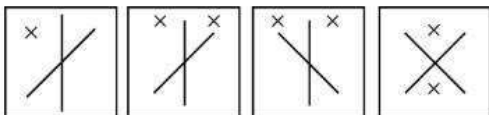
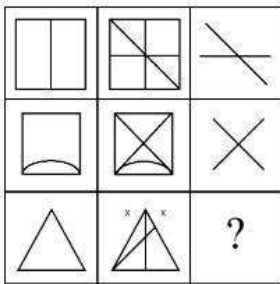
Question Number : 199 Question Id : 48558426499 Question Type : MCQ Option Shuffling : No Is Question Mandatory : No Calculator : None Response Time : N.A Think Time : N.A Minimum Instruction Time : 0

Correct Marks : 5 Wrong Marks : 1

Question Key Details :

Key	Value
Comprehension	MCQ

विकल्पों में दिए चित्रों (1), (2), (3) तथा (4) में से कौन सा चित्र दिए गए चित्र आव्यूह को पूरा करता है?



(A) (B) (C) (D)

1. A
2. B
3. C
4. D

Options :

485584105993. 1
 485584105994. 2
 485584105995. 3
 485584105996. 4

Question Number : 200 Question Id : 48558426500 Question Type : MCQ Option Shuffling : No Is Question Mandatory : No Calculator : None Response Time : N.A Think Time : N.A Minimum Instruction Time : 0

Correct Marks : 5 Wrong Marks : 1

Question Key Details :

Key	Value
Comprehension	MCQ

Choose the alternative which most closely resembles the mirror image of the given combination.

SACRIFICE4

1. 4 ECIFRACS
 2. 4 E F I C E 4
 3. 4 E F I C E 4
 4. S A C R I F I C E 4

Options :

485584105997. 1
 485584105998. 2
 485584105999. 3
 485584106000. 4

Question Number : 200 Question Id : 48558426500 Question Type : MCQ Option Shuffling : No Is Question Mandatory : No Calculator : None Response Time : N.A Think Time : N.A Minimum Instruction Time : 0

Correct Marks : 5 Wrong Marks : 1

Question Key Details :

Key	Value
Comprehension	MCQ

नीचे दिए गए संयोजन से सर्वाधिक मेल खाते हुए दर्पण बिम्ब का चयन करें।

SACRIFICE4

1. 4 ECIFRACS
 2. 4 E F I C E 4
 3. 4 E F I C E 4
 4. S A C R I F I C E 4

Options :

485584105997. 1
 485584105998. 2
 485584105999. 3
 485584106000. 4

Question Number : 201 Question Id : 48558426501 Question Type : MCQ Option Shuffling : No Is Question Mandatory : No Calculator : None Response Time : N.A Think Time : N.A Minimum Instruction Time : 0

Correct Marks : 5 Wrong Marks : 1

Question Key Details :

Key	Value
Comprehension	MCQ

Find the missing term which can be filled at "?" place

1, 3, 7, 22, 67, ? 1077

1. 269

2. 263

3. 362

4. 267

Options :

485584106001. 1

485584106002. 2

485584106003. 3

485584106004. 4

Question Number : 201 Question Id : 48558426501 Question Type : MCQ Option Shuffling : No Is Question Mandatory : No Calculator : None Response Time : N.A Think Time : N.A Minimum Instruction Time : 0

Correct Marks : 5 Wrong Marks : 1

Question Key Details :

Key	Value
Comprehension	MCQ

प्रश्न वाचक चिह्न के स्थान पर आने वाले अज्ञात पद को ज्ञात करें।

1, 3, 7, 22, 67, ? 1077

1. 269

2. 263

3. 362

4. 267

Options :

485584106001. 1

485584106002. 2

485584106003. 3

485584106004. 4

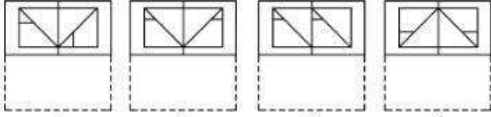
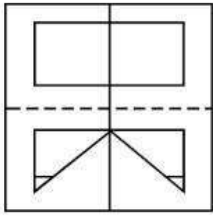
Question Number : 202 Question Id : 48558426502 Question Type : MCQ Option Shuffling : No Is Question Mandatory : No Calculator : None Response Time : N.A Think Time : N.A Minimum Instruction Time : 0

Correct Marks : 5 Wrong Marks : 1

Question Key Details :

Key	Value
Comprehension	MCQ

Find out which option figure resembles the pattern formed when sheet is folded along the dotted line?



1. A
2. B
3. C
4. D

Options :

- 485584106005. 1
- 485584106006. 2
- 485584106007. 3
- 485584106008. 4

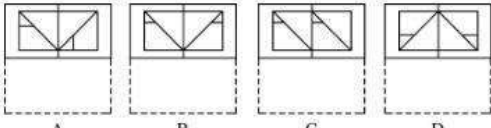
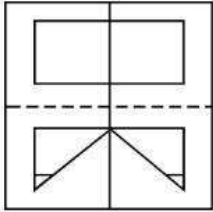
Question Number : 202 Question Id : 48558426502 Question Type : MCQ Option Shuffling : No Is Question Mandatory : No Calculator : None Response Time : N.A Think Time : N.A Minimum Instruction Time : 0

Correct Marks : 5 Wrong Marks : 1

Question Key Details :

Key	Value
Comprehension	MCQ

शीट को बिंदुकित रेखा से मोड़ने पर बनने वाले पैटर्न से मेल खाते हुए चित्र को ज्ञात करें।



1. A
2. B
3. C
4. D

Options :

- 485584106005. 1
- 485584106006. 2
- 485584106007. 3
- 485584106008. 4

Question Number : 203 Question Id : 48558426503 Question Type : MCQ Option Shuffling : No Is Question Mandatory : No Calculator : None Response Time : N.A Think Time : N.A Minimum Instruction Time : 0

Correct Marks : 5 Wrong Marks : 1

Question Key Details :

Key	Value
Comprehension	MCQ

Study the following information and answer the question given below:

A family has 5 members P, Q, R, S and T, each have a different weight.

- i. P weighs twice as much as Q
- ii. Q weighs four and a half times as much as R
- iii. R weighs half as much as S
- iv. S weighs half as much as T
- v. T weighs less than P but more than R

Which of the following member of a family is the lightest in weight?

1. P
2. Q
3. R
4. S

Options :

485584106009. 1
485584106010. 2
485584106011. 3
485584106012. 4

Question Number : 203 Question Id : 48558426503 Question Type : MCQ Option Shuffling : No Is Question Mandatory : No Calculator : None Response Time : N.A Think Time : N.A Minimum Instruction Time : 0

Correct Marks : 5 Wrong Marks : 1

Question Key Details :

Key	Value
Comprehension	MCQ

नीचे दी गई जानकारी को पढ़ें तथा पूछे गए प्रश्नों के उत्तर दें।

एक परिवार में 5 सदस्य P, Q, R, S तथा T हैं। प्रत्येक का भार भिन्न है।

- i. P का भार Q से दोगुना है।
- ii. Q का भार R से साढ़े चार गुणा अधिक है।
- iii. R का भार S से आधा है।
- iv. S का भार T से आधा है।
- v. T का भार P से कम किन्तु R से अधिक है।

नीचे दिए गए परिवार के इन सदस्यों में से किसका भार सबसे कम है?

1. P
2. Q
3. R
4. S

Options :

485584106009. 1
485584106010. 2
485584106011. 3
485584106012. 4

Question Number : 204 Question Id : 48558426504 Question Type : MCQ Option Shuffling : No Is Question Mandatory : No Calculator : None
Response Time : N.A Think Time : N.A Minimum Instruction Time : 0

Correct Marks : 5 Wrong Marks : 1

Question Key Details :

Key	Value
Comprehension	MCQ

Rinki ranked 10th from the top and 28th from the bottom in a class. How many students are there in the class?

1. 27
2. 37
3. 38
4. 39

Options :

485584106013. 1
485584106014. 2
485584106015. 3
485584106016. 4

Question Number : 204 Question Id : 48558426504 Question Type : MCQ Option Shuffling : No Is Question Mandatory : No Calculator : None
Response Time : N.A Think Time : N.A Minimum Instruction Time : 0

Correct Marks : 5 Wrong Marks : 1

Question Key Details :

Key	Value
Comprehension	MCQ

कक्षा में रिंकी का स्थान शीर्ष से 10 वां है तथा नीचे से 28 वां है। कक्षा में कुल कितने छात्र हैं?

1. 27
2. 37
3. 38
4. 39

Options :

485584106013. 1
485584106014. 2
485584106015. 3
485584106016. 4

Question Number : 205 Question Id : 48558426505 Question Type : MCQ Option Shuffling : No Is Question Mandatory : No Calculator : None
Response Time : N.A Think Time : N.A Minimum Instruction Time : 0

Correct Marks : 5 Wrong Marks : 1

Question Key Details :

Key	Value
Comprehension	MCQ

Six persons A, B, C, D, E, and F are sitting in two rows with three persons in each row. People of both the rows are facing each other. E is not at the end of any row. D is second to the left of F. C is the neighbour of E and diagonally opposite to D. B is the neighbour of F. Who is in front of F?

1. A
2. B
3. C
4. D

Options :

485584106017. 1
 485584106018. 2
 485584106019. 3
 485584106020. 4

Question Number : 205 Question Id : 48558426505 Question Type : MCQ Option Shuffling : No Is Question Mandatory : No Calculator : None Response Time : N.A Think Time : N.A Minimum Instruction Time : 0

Correct Marks : 5 Wrong Marks : 1

Question Key Details :

Key	Value
Comprehension	MCQ

छ: व्यक्ति A, B, C, D, E, तथा F दो पंक्तियों में इस प्रकार बैठे हैं की दोनों पंक्ति में तिन तिन व्यक्ति है और दोनों पंक्ति के व्यक्ति एक दुसरे की तरफ देख रहे हैं। E किसी भी पंक्ति के अंत में नहीं बैठा। F के बाएँ तरफ दूसरे स्थान पर D बैठा है। C, E का पड़ोसी है तथा D के विकर्णतः रूप से बैठा है। B, F का पड़ोसी है। F के सामने कौन है?

1. A
2. B
3. C
4. D

Options :

485584106017. 1
 485584106018. 2
 485584106019. 3
 485584106020. 4

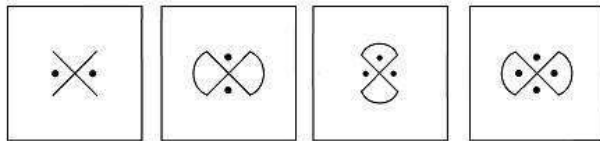

Question Number : 206 Question Id : 48558426506 Question Type : MCQ Option Shuffling : No Is Question Mandatory : No Calculator : None Response Time : N.A Think Time : N.A Minimum Instruction Time : 0

Correct Marks : 5 Wrong Marks : 1

Question Key Details :

Key	Value
Comprehension	MCQ

Among four answer figures which one can be formed from the cut out pieces given below:



1. a
2. b
3. c
4. d

Options :

485584106021. 1
 485584106022. 2

485584106023. 3
485584106024. 4

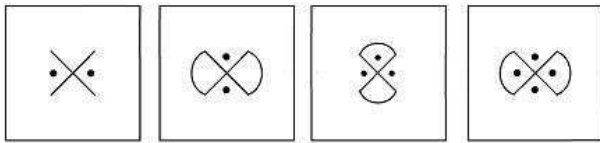

Question Number : 206 Question Id : 48558426506 Question Type : MCQ Option Shuffling : No Is Question Mandatory : No Calculator : None
Response Time : N.A Think Time : N.A Minimum Instruction Time : 0

Correct Marks : 5 Wrong Marks : 1

Question Key Details :

Key	Value
Comprehension	MCQ

नीचे दिए गए टुकड़ों द्वारा, विकल्पों में दिया गया कौन सा चित्र बन सकता है?



1. a
2. b
3. c
4. d

Options :

485584106021. 1
485584106022. 2
485584106023. 3
485584106024. 4

Question Number : 207 Question Id : 48558426507 Question Type : MCQ Option Shuffling : No Is Question Mandatory : No Calculator : None
Response Time : N.A Think Time : N.A Minimum Instruction Time : 0

Correct Marks : 5 Wrong Marks : 1

Question Key Details :

Key	Value
Comprehension	MCQ

Choose the assumption which is implicit in context of the given statement.

Statement-" Z- perfume is ideal as a gift for someone you love" - An Advertisement

Assumptions

- I. People generally give gifts to loved one.
- II. Such advertisements generally influence people.
- III. Perfume can be considered as a gift item.

Choose the most appropriate answer from the options given below:

1. I and II are implicit
2. I and III are implicit
3. All are implicit
4. II and III are implicit

Options :

485584106025. 1
485584106026. 2
485584106027. 3
485584106028. 4

Question Number : 207 Question Id : 48558426507 Question Type : MCQ Option Shuffling : No Is Question Mandatory : No Calculator : None
Response Time : N.A Think Time : N.A Minimum Instruction Time : 0

Correct Marks : 5 Wrong Marks : 1

Question Key Details :

Key	Value
Comprehension	MCQ

उस पूर्वानुमान को चुनें जो दिए गए कथन के सन्दर्भ में निहित है।

कथन -" जिसे आप प्यार करते हैं उसे देने के लिए Z- इत्र एक आदर्श उपहार है"। एक विज्ञापन

पूर्वानुमान

- I. लोग अधिकतर अपने प्रिय लोगों को उपहार देते हैं।
- II. ऐसे विज्ञापन सामान्यतः लोगों को प्रभावित करते हैं।
- III. इत्र को एक उपहार में दी जाने वाली योग्य वस्तु माना जा सकता है।

नीचे दिए गए विकल्पों में से सबसे उपयुक्त उत्तर का चयन कीजिए:

1. I तथा II निहित हैं।
2. I तथा III निहित हैं।
3. सभी निहित हैं।
4. II तथा III निहित हैं।

Options :

485584106025. 1
485584106026. 2
485584106027. 3
485584106028. 4

Question Number : 208 Question Id : 48558426508 Question Type : MCQ Option Shuffling : No Is Question Mandatory : No Calculator : None
Response Time : N.A Think Time : N.A Minimum Instruction Time : 0

Correct Marks : 5 Wrong Marks : 1

Question Key Details :

Key	Value
-----	-------

Which of the given conclusions logically follows the given two statements.

Statements

All apples are Banana

No Banana is Grape

Some Grape are Orange

Conclusions

I. Some Banana are Orange

II. No Apple is Orange

III. All Banana are Orange is a possibility

1. Only I follow
2. Only II conclusion follow
3. Only III follow
4. All conclusion follow

Options :

485584106029. 1

485584106030. 2

485584106031. 3

485584106032. 4

Question Number : 208 Question Id : 48558426508 Question Type : MCQ Option Shuffling : No Is Question Mandatory : No Calculator : None Response Time : N.A Think Time : N.A Minimum Instruction Time : 0

Correct Marks : 5 Wrong Marks : 1

Question Key Details :

Key	Value
Comprehension	MCQ

नीचे दिए गए कौन से निष्कर्ष दिए गए कथनों के लिए तार्किक रूप से उचित है?

कथन

सभी सेब केले हैं।

कोई केला अंगूर नहीं है।

कुछ अंगूर संतरे हैं।

निष्कर्ष

I. कुछ केले संतरे हैं।

II. कोई सेब संतरा नहीं है।

III. एक संभावना है कि सभी केले संतरे हैं।

1. केवल निष्कर्ष I उचित है।
2. केवल निष्कर्ष II उचित है।
3. केवल निष्कर्ष III उचित है।
4. सभी निष्कर्ष उचित हैं।

Options :

485584106029. 1
485584106030. 2
485584106031. 3
485584106032. 4

Question Number : 209 Question Id : 48558426509 Question Type : MCQ Option Shuffling : No Is Question Mandatory : No Calculator : None Response Time : N.A Think Time : N.A Minimum Instruction Time : 0

Correct Marks : 5 Wrong Marks : 1

Question Key Details :

Key	Value
Comprehension	MCQ

In a certain code, 'lee ra de' means 'Upanishads are it', 'mo nil' means 'you read', 'nil pom ra' means 'you like it' and 'tok lee fo' means 'They are immortal' How will you write 'Upanishads you like' in that code?

1. de nil pom
2. de nil ra
3. mo nil pom
4. nil tok lee

Options :

485584106033. 1
485584106034. 2
485584106035. 3
485584106036. 4

Question Number : 209 Question Id : 48558426509 Question Type : MCQ Option Shuffling : No Is Question Mandatory : No Calculator : None Response Time : N.A Think Time : N.A Minimum Instruction Time : 0

Correct Marks : 5 Wrong Marks : 1

Question Key Details :

Key	Value
Comprehension	MCQ

In एक कूट में, 'lee ra de' का अर्थ है 'Upanishads are it', 'mo nil' का अर्थ है 'you read', 'nil pom ra' का अर्थ है 'you like it' तथा 'tok lee fo' का अर्थ है 'They are immortal'। तो 'Upanishads you like' कैसे लिखा जायेगा

1. de nil pom
2. de nil ra
3. mo nil pom
4. nil tok lee

Options :

485584106033. 1
485584106034. 2
485584106035. 3
485584106036. 4

Question Number : 210 Question Id : 48558426510 Question Type : MCQ Option Shuffling : No Is Question Mandatory : No Calculator : None Response Time : N.A Think Time : N.A Minimum Instruction Time : 0

Correct Marks : 5 Wrong Marks : 1

Question Key Details :

Key	Value
Comprehension	MCQ

At what time between 4 o' clock and 5 o' clock hour hand and minute hand will coincide?

1. $4:18\frac{9}{11}$

2. $4:22\frac{9}{11}$

3. $4:21\frac{9}{11}$

4. $4:23\frac{9}{11}$

Options :

485584106037. 1

485584106038. 2

485584106039. 3

485584106040. 4

Question Number : 210 Question Id : 48558426510 Question Type : MCQ Option Shuffling : No Is Question Mandatory : No Calculator : None Response Time : N.A Think Time : N.A Minimum Instruction Time : 0

Correct Marks : 5 Wrong Marks : 1

Question Key Details :

Key	Value
Comprehension	MCQ

4.00 बजे से 5.00 बजे की बीच घड़ी की मिनट तथा घंटे की सुइयाँ कितने बजे एक दूसरे पर आच्छादित होंगी?

1. $4:18\frac{9}{11}$

2. $4:22\frac{9}{11}$

3. $4:21\frac{9}{11}$

4. $4:23\frac{9}{11}$

Options :

485584106037. 1

485584106038. 2

485584106039. 3

485584106040. 4