

Geography

Group Number :	2
Group Id :	54025019
Group Maximum Duration :	45
Group Minimum Duration :	45
Show Attended Group? :	No
Edit Attended Group? :	No
Break time :	0
Group Marks :	200

Is this Group for Examiner? : No
Examiner permission : Cant View
Show Progress Bar? : No

Geography

Section Id : 54025019
Section Number : 1
Section type : Online
Mandatory or Optional : Mandatory
Number of Questions : 50
Number of Questions to be attempted : 40
Section Marks : 200
Enable Mark as Answered Mark for Review and Clear Response : Yes
Maximum Instruction Time : 0
Sub-Section Number : 1
Sub-Section Id : 54025062
Question Shuffling Allowed : Yes
Is Section Default? : null

Question Number : 51 Question Id : 540250821 Question Type : MCQ Option Shuffling : No Is Question Mandatory : No Calculator : None Response Time : N.A Think Time : N.A Minimum Instruction Time : 0

Correct Marks : 5 Wrong Marks : 1

Question Key Details :

Key	Value
Comprehension	MCQ

“Human Geography is the synthetic study of relationship between human societies and earth’s surface”. Who said this ?

- (1) Griffith Taylor
- (2) Vidal de-la-Blache
- (3) Ellen C. Semple
- (4) Ratzel

Options :

5402503281. 1

5402503282. 2

5402503283. 3

5402503284. 4

Question Number : 51 Question Id : 540250821 Question Type : MCQ Option Shuffling : No Is Question Mandatory : No Calculator : None Response Time : N.A Think Time : N.A Minimum Instruction Time : 0

Correct Marks : 5 Wrong Marks : 1

Question Key Details :

Key	Value
Comprehension	MCQ

“मानव भूगोल मानव समाजों और धरातल के बीच संबंधों का संश्लेषित अध्ययन है।” - किसने कहा ?

- (1) ग्रिफिथ टेलर
- (2) विडाल - डी - ला ब्लाश
- (3) एलन - सी. सेम्पल
- (4) रैटज़ेल

Options :

5402503281. 1

5402503282. 2

5402503283. 3

5402503284. 4

Question Number : 52 Question Id : 540250822 Question Type : MCQ Option Shuffling : No Is Question Mandatory : No Calculator : None Response Time : N.A Think Time : N.A Minimum Instruction Time : 0

Correct Marks : 5 Wrong Marks : 1

Question Key Details :

Key	Value
Comprehension	MCQ

_____ School of Thought in Geography is concerned with the different aspects of social well being of the people.

- (1) Deterministic
- (2) Humanistic
- (3) Possibilistic
- (4) Naturalistic

Options :

5402503285. 1

5402503286. 2

5402503287. 3

5402503288. 4

Question Number : 52 Question Id : 540250822 Question Type : MCQ Option Shuffling : No Is Question Mandatory : No Calculator : None Response Time : N.A Think Time : N.A Minimum Instruction Time : 0

Correct Marks : 5 Wrong Marks : 1

Question Key Details :

Key	Value
Comprehension	MCQ

विचारधारा भूगोल में जो कि व्यक्तियों के सामाजिक कल्याण के विभिन्न आयामों से संबंधित है।

- (1) निश्चयवादी
- (2) मानववादी
- (3) संभावनावादी
- (4) प्रकृतिवादी

Options :

5402503285. 1

5402503286. 2

5402503287. 3

5402503288. 4

Question Number : 53 Question Id : 540250823 Question Type : MCQ Option Shuffling : No Is

Question Mandatory : No Calculator : None Response Time : N.A Think Time : N.A Minimum

Instruction Time : 0

Correct Marks : 5 Wrong Marks : 1

Question Key Details :

Key	Value
Comprehension	MCQ

Military Geography is a sub-field of which field of Human Geography ?

- (1) Economic Geography
- (2) Human Geography
- (3) Political Geography
- (4) Urban Geography

Options :

5402503289. 1

5402503290. 2

5402503291. 3

5402503292. 4

Question Number : 53 Question Id : 540250823 Question Type : MCQ Option Shuffling : No Is

Question Mandatory : No Calculator : None Response Time : N.A Think Time : N.A Minimum

Instruction Time : 0

Correct Marks : 5 Wrong Marks : 1

Question Key Details :

Key	Value
Comprehension	MCQ

सैन्य भूगोल, मानव भूगोल के लिए किस क्षेत्र का उपक्षेत्र है ?

- (1) आर्थिक भूगोल
- (2) मानव भूगोल
- (3) राजनीतिक भूगोल
- (4) नगरीय भूगोल

Options :

5402503289. 1

5402503290. 2

5402503291. 3

5402503292. 4

Question Number : 54 Question Id : 540250824 Question Type : MCQ Option Shuffling : No Is

Question Mandatory : No Calculator : None Response Time : N.A Think Time : N.A Minimum

Instruction Time : 0

Correct Marks : 5 Wrong Marks : 1

Question Key Details :

Key	Value
Comprehension	MCQ

Katanga Zambia copper belt is located in :

- (1) Asia
- (2) Africa
- (3) Australia
- (4) North America

Options :

5402503293. 1

5402503294. 2

5402503295. 3

5402503296. 4

Question Number : 54 Question Id : 540250824 Question Type : MCQ Option Shuffling : No Is Question Mandatory : No Calculator : None Response Time : N.A Think Time : N.A Minimum Instruction Time : 0

Correct Marks : 5 Wrong Marks : 1

Question Key Details :

Key	Value
Comprehension	MCQ

कटांगा जाम्बिया ताँबा पेटी में स्थित है :

- (1) एशिया
- (2) अफ्रीका
- (3) ऑस्ट्रेलिया
- (4) उत्तरी अमरीका

Options :

5402503293. 1

5402503294. 2

5402503295. 3

5402503296. 4

Question Number : 55 Question Id : 540250825 Question Type : MCQ Option Shuffling : No Is Question Mandatory : No Calculator : None Response Time : N.A Think Time : N.A Minimum Instruction Time : 0

Correct Marks : 5 Wrong Marks : 1

Question Key Details :

Key	Value
Comprehension	MCQ

Which one of the following is the main cause of immigration in developed countries ?

- (1) The climate is pleasant
- (2) No interference from government
- (3) The people are helpful
- (4) Better job opportunities and better quality of life

Options :

5402503297. 1

5402503298. 2

5402503299. 3

5402503300. 4

Question Number : 55 Question Id : 540250825 Question Type : MCQ Option Shuffling : No Is

Question Mandatory : No Calculator : None Response Time : N.A Think Time : N.A Minimum

Instruction Time : 0

Correct Marks : 5 Wrong Marks : 1

Question Key Details :

Key	Value
Comprehension	MCQ

विकसित देशों में आप्रवास का मुख्य कारण निम्न में से कौन-सा है ?

- (1) जलवायु सुहानी है
- (2) सरकार की ओर से कोई हस्तक्षेप नहीं
- (3) लोग सहायक हैं
- (4) बेहतर रोजगार अवसर तथा जीवन की बेहतर गुणवत्ता

Options :

5402503297. 1

5402503298. 2

5402503299. 3

5402503300. 4

Question Number : 56 Question Id : 540250826 Question Type : MCQ Option Shuffling : No Is

Question Mandatory : No Calculator : None Response Time : N.A Think Time : N.A Minimum

Instruction Time : 0

Correct Marks : 5 Wrong Marks : 1

Question Key Details :

Key	Value
Comprehension	MCQ

The Demographic Transition Theory is used to _____.

- (1) Measure birth rate of any area
- (2) Describe and predict the future population of any area
- (3) Measure death rate of any area
- (4) Explain emigration of any area

Options :

5402503301. 1

5402503302. 2

5402503303. 3

5402503304. 4

Question Number : 56 Question Id : 540250826 Question Type : MCQ Option Shuffling : No Is

Question Mandatory : No Calculator : None Response Time : N.A Think Time : N.A Minimum

Instruction Time : 0

Correct Marks : 5 Wrong Marks : 1

Question Key Details :

Key	Value
Comprehension	MCQ

जनांकिकीय संक्रमण सिद्धांत का प्रयोग किया जाता है _____ ।

- (1) किसी क्षेत्र की जन्म दर मापना
- (2) किसी क्षेत्र की भावी जनसंख्या की व्याख्या व पूर्वानुमान
- (3) किसी क्षेत्र की मृत्यु दर नापना
- (4) किसी क्षेत्र के उत्प्रवास की व्याख्या

Options :

5402503301. 1

5402503302. 2

5402503303. 3

5402503304. 4

Question Number : 57 Question Id : 540250827 Question Type : MCQ Option Shuffling : No Is Question Mandatory : No Calculator : None Response Time : N.A Think Time : N.A Minimum Instruction Time : 0

Correct Marks : 5 Wrong Marks : 1

Question Key Details :

Key	Value
Comprehension	MCQ

Which industry is **NOT** dependent on any specific raw material ?

- (1) Cottage Industries
- (2) Foot Loose Industries
- (3) Manufacturing Industries
- (4) Agro-based Industries

Options :

5402503305. 1

5402503306. 2

5402503307. 3

5402503308. 4

Question Number : 57 Question Id : 540250827 Question Type : MCQ Option Shuffling : No Is Question Mandatory : No Calculator : None Response Time : N.A Think Time : N.A Minimum Instruction Time : 0

Correct Marks : 5 Wrong Marks : 1

Question Key Details :

Key	Value
Comprehension	MCQ

निम्न में से कौन-सा उद्योग विशिष्ट कच्चे माल पर आधारित नहीं है ?

- (1) कुटीर उद्योग
- (2) स्वच्छंद उद्योग
- (3) विनिर्माण उद्योग
- (4) कृषि आधारित उद्योग

Options :

5402503305. 1

5402503306. 2

5402503307. 3

5402503308. 4

Question Number : 58 Question Id : 540250828 Question Type : MCQ Option Shuffling : No Is

Question Mandatory : No Calculator : None Response Time : N.A Think Time : N.A Minimum

Instruction Time : 0

Correct Marks : 5 Wrong Marks : 1

Question Key Details :

Key	Value
Comprehension	MCQ

Many people living in landlocked areas love to spend holidays along the beaches/sea. Which factor of tourist attraction does this represent ?

- (1) Landscape
- (2) Art
- (3) History
- (4) Cultural

Options :

5402503309. 1

5402503310. 2

5402503311. 3

5402503312. 4

Question Number : 58 Question Id : 540250828 Question Type : MCQ Option Shuffling : No Is Question Mandatory : No Calculator : None Response Time : N.A Think Time : N.A Minimum Instruction Time : 0

Correct Marks : 5 Wrong Marks : 1

Question Key Details :

Key	Value
Comprehension	MCQ

भू-आबद्ध क्षेत्रों में रहने वाले बहुत से लोग अपनी छुट्टियां समुद्र किनारे व्यतीत करना पसंद करते हैं। यह पर्यटक आकर्षण का कौन-सा कारक दर्शाता है ?

- (1) भू-दृश्य
- (2) कला
- (3) इतिहास
- (4) संस्कृति

Options :

5402503309. 1
5402503310. 2
5402503311. 3
5402503312. 4

Question Number : 59 Question Id : 540250829 Question Type : MCQ Option Shuffling : No Is Question Mandatory : No Calculator : None Response Time : N.A Think Time : N.A Minimum Instruction Time : 0

Correct Marks : 5 Wrong Marks : 1

Question Key Details :

Key	Value
Comprehension	MCQ

The spacing between two rails of broad gauge is _____.

- (1) More than 1.5 meter
- (2) Less than 1.5 meter
- (3) More than 1.0 meter
- (4) Less than 1.44 meter

Options :

5402503313. 1

5402503314. 2

5402503315. 3

5402503316. 4

Question Number : 59 Question Id : 540250829 Question Type : MCQ Option Shuffling : No Is

Question Mandatory : No Calculator : None Response Time : N.A Think Time : N.A Minimum

Instruction Time : 0

Correct Marks : 5 Wrong Marks : 1

Question Key Details :

Key	Value
Comprehension	MCQ

चौड़ी लाइन में दो रेल (पटरी) के मध्य की दूरी होती है _____ ।

- (1) 1.5 मीटर से अधिक
- (2) 1.5 मीटर से कम
- (3) 1.0 मीटर से अधिक
- (4) 1.44 मीटर से कम

Options :

5402503313. 1

5402503314. 2

5402503315. 3

5402503316. 4

Question Number : 60 Question Id : 540250830 Question Type : MCQ Option Shuffling : No Is

Question Mandatory : No Calculator : None Response Time : N.A Think Time : N.A Minimum

Instruction Time : 0

Correct Marks : 5 Wrong Marks : 1

Question Key Details :

Key	Value
Comprehension	MCQ

Aryabhat was launched in the year _____

- (1) 1975
- (2) 1979
- (3) 1980
- (4) 1981

Options :

5402503317. 1

5402503318. 2

5402503319. 3

5402503320. 4

Question Number : 60 Question Id : 540250830 Question Type : MCQ Option Shuffling : No Is

Question Mandatory : No Calculator : None Response Time : N.A Think Time : N.A Minimum

Instruction Time : 0

Correct Marks : 5 Wrong Marks : 1

Question Key Details :

Key	Value
Comprehension	MCQ

आर्यभट्ट किस वर्ष में प्रक्षेपण किया गया ?

- (1) 1975
- (2) 1979
- (3) 1980
- (4) 1981

Options :

5402503317. 1

5402503318. 2

5402503319. 3

5402503320. 4

Question Number : 61 Question Id : 540250831 Question Type : MCQ Option Shuffling : No Is Question Mandatory : No Calculator : None Response Time : N.A Think Time : N.A Minimum Instruction Time : 0

Correct Marks : 5 Wrong Marks : 1

Question Key Details :

Key	Value
Comprehension	MCQ

By supporting developing countries in setting up of capital intensive industries, the industrial nations ensure _____.

- (1) Their monopoly
- (2) Markets for their finished products
- (3) Export of minerals from developing countries
- (4) Human welfare and ecological balance

Options :

5402503321. 1

5402503322. 2

5402503323. 3

5402503324. 4

Question Number : 61 Question Id : 540250831 Question Type : MCQ Option Shuffling : No Is Question Mandatory : No Calculator : None Response Time : N.A Think Time : N.A Minimum Instruction Time : 0

Correct Marks : 5 Wrong Marks : 1

Question Key Details :

Key	Value
Comprehension	MCQ

विकासशील देशों में पूँजी गहन उद्योगों की शुरूआत करने में सहायता करके, औद्योगिक राष्ट्र सुनिश्चित करते हैं _____ ।

- (1) उनका एकाधिकार
- (2) उनके अंतिम उत्पादों के लिए बाजार
- (3) विकासशील देशों से खनिजों का निर्यात
- (4) मानव कल्याण तथा पारितंत्रकीय संतुलन

Options :

5402503321. 1

5402503322. 2

5402503323. 3

5402503324. 4

Question Number : 62 Question Id : 540250832 Question Type : MCQ Option Shuffling : No Is

Question Mandatory : No Calculator : None Response Time : N.A Think Time : N.A Minimum

Instruction Time : 0

Correct Marks : 5 Wrong Marks : 1

Question Key Details :

Key	Value
Comprehension	MCQ

Which city was the first urban settlement to reach a population of one million ?

- (1) Paris
- (2) New York
- (3) Tokyo
- (4) London

Options :

5402503325. 1

5402503326. 2

5402503327. 3

5402503328. 4

Question Number : 62 Question Id : 540250832 Question Type : MCQ Option Shuffling : No Is

Question Mandatory : No Calculator : None Response Time : N.A Think Time : N.A Minimum

Instruction Time : 0

Correct Marks : 5 Wrong Marks : 1

Question Key Details :

Key	Value
Comprehension	MCQ

निम्न शहरों में से कौन-सा पहला नगरीय बस्ती है जिसकी जनसंख्या एक मिलियन तक पहुँच गयी ?

- (1) पेरिस
- (2) न्यूयॉर्क
- (3) टोक्यो
- (4) लंदन

Options :

5402503325. 1

5402503326. 2

5402503327. 3

5402503328. 4

Question Number : 63 Question Id : 540250833 Question Type : MCQ Option Shuffling : No Is

Question Mandatory : No Calculator : None Response Time : N.A Think Time : N.A Minimum

Instruction Time : 0

Correct Marks : 5 Wrong Marks : 1

Question Key Details :

Key	Value
Comprehension	MCQ

The most important problem faced by big cities due to increasing population is _____.

- (1) Migration towards rural areas
- (2) Increase in slums and squatter settlement
- (3) Decline in medical facilities in absolute sense
- (4) Stagnation of per capita income

Options :

5402503329. 1

5402503330. 2

5402503331. 3

5402503332. 4

Question Number : 63 Question Id : 540250833 Question Type : MCQ Option Shuffling : No Is Question Mandatory : No Calculator : None Response Time : N.A Think Time : N.A Minimum Instruction Time : 0

Correct Marks : 5 Wrong Marks : 1

Question Key Details :

Key	Value
Comprehension	MCQ

बढ़ती जनसंख्या के कारण बड़े शहरों द्वारा सामना की जा रही सबसे प्रमुख समस्या है _____ ।

- (1) ग्रामीण क्षेत्रों की ओर प्रवास
- (2) झुग्गी बस्तियों में बढ़ोतरी
- (3) सम्पूर्ण परिवेश में चिकित्सीय सुविधाओं की कमी
- (4) प्रति व्यक्ति आय में ठहराव

Options :

5402503329. 1

5402503330. 2

5402503331. 3

5402503332. 4

Question Number : 64 Question Id : 540250834 Question Type : MCQ Option Shuffling : No Is Question Mandatory : No Calculator : None Response Time : N.A Think Time : N.A Minimum Instruction Time : 0

Correct Marks : 5 Wrong Marks : 1

Question Key Details :

Key	Value
Comprehension	MCQ

Which of the following statements about the definition of urban settlements by Census of India are correct ?

- (A) All places which have municipality, corporation, cantonment board or notified town area committee
- (B) Minimum population of 5000 persons
- (C) At least, 50 percent of male workers are engaged in non-agricultural pursuits
- (D) A density of population of at least 400 persons per square kilometer

Choose the **correct** answer from the options given below :

- (1) (A), (B), (C) only
- (2) (A), (B), (D) only
- (3) (B), (C), (D) only
- (4) (A), (C), (D) only

Options :

5402503333. 1

5402503334. 2

5402503335. 3

5402503336. 4

Question Number : 64 Question Id : 540250834 Question Type : MCQ Option Shuffling : No Is Question Mandatory : No Calculator : None Response Time : N.A Think Time : N.A Minimum Instruction Time : 0

Correct Marks : 5 Wrong Marks : 1

Question Key Details :

Key	Value
Comprehension	MCQ

भारत की जनगणना के अनुसार, नगरीय बस्तियों की परिभाषा के बारे में निम्नलिखित कथनों में से कौनसे सही हैं?

- (A) सभी जगह जहाँ नगरपालिका निगम, छावनी बोर्ड या सूचित नगर क्षेत्र समिति हो
- (B) निम्नतम जनसंख्या 5000 व्यक्तियों की
- (C) कम से कम 50 प्रतिशत पुरुष श्रमिक गैर कृषि कामों में व्यस्त हो
- (D) कम से कम 400 व्यक्ति प्रति वर्ग कि.मी. का जनसंख्या घनत्व हो

नीचे दिए गए विकल्पों में से सही उत्तर का चयन कीजिए :

- (1) केवल (A), (B), (C)
- (2) केवल (A), (B), (D)
- (3) केवल (B), (C), (D)
- (4) केवल (A), (C), (D)

Options :

5402503333. 1

5402503334. 2

5402503335. 3

5402503336. 4

Question Number : 65 Question Id : 540250835 Question Type : MCQ Option Shuffling : No Is Question Mandatory : No Calculator : None Response Time : N.A Think Time : N.A Minimum Instruction Time : 0

Correct Marks : 5 Wrong Marks : 1

Question Key Details :

Key	Value
Comprehension	MCQ

Which of the given points on History of International Trade are correct ?

- (A) In ancient times trade was restricted to local markets
- (B) The silk route is an example of long distance trade
- (C) Industrialised nations started importing raw materials and exporting finished products
- (D) Slave trade started after World War I

Choose the **correct** answer from the options given below :

- (1) (A), (B), (D) only
- (2) (A), (B), (C) only
- (3) (A), (C), (D) only
- (4) (B), (C), (D) only

Options :

5402503337. 1

5402503338. 2

5402503339. 3

5402503340. 4

Question Number : 65 Question Id : 540250835 Question Type : MCQ Option Shuffling : No Is

Question Mandatory : No Calculator : None Response Time : N.A Think Time : N.A Minimum

Instruction Time : 0

Correct Marks : 5 Wrong Marks : 1

Question Key Details :

Key	Value
Comprehension	MCQ

अंतर्राष्ट्रीय व्यापार के इतिहास के बारे में दिए गए बिन्दुओं में से कौनसे सही हैं ?

- (A) प्राचीन समय में व्यापार स्थानीय बाज़ार तक प्रतिबंधित था
- (B) रेशम मार्ग, एक लम्बी दूरी व्यापार का उदाहरण है
- (C) औद्योगिक राष्ट्रों ने कच्चा माल आयात करके तथा अंतिम उत्पाद निर्यात करके शुरूआत की
- (D) प्रथम विश्व युद्ध के बाद दास व्यापार का आरंभ हुआ

नीचे दिए गए विकल्पों में से सही उत्तर का चयन कीजिए :

- (1) केवल (A), (B), (D)
- (2) केवल (A), (B), (C)
- (3) केवल (A), (C), (D)
- (4) केवल (B), (C), (D)

Options :

5402503337. 1

5402503338. 2

5402503339. 3

5402503340. 4

Question Number : 66 Question Id : 540250836 Question Type : MCQ Option Shuffling : No Is Question Mandatory : No Calculator : None Response Time : N.A Think Time : N.A Minimum Instruction Time : 0

Correct Marks : 5 Wrong Marks : 1

Question Key Details :

Key	Value
Comprehension	MCQ

Arrange the following technological developments in a chronological order.

- (A) Information and Computers
- (B) Development of Agriculture
- (C) Sanitation and Medical
- (D) Industrial Development

Choose the **correct** answer from the options given below :

- (1) (D), (B), (A), (C)
- (2) (D), (B), (C), (A)
- (3) (B), (D), (A), (C)
- (4) (B), (D), (C), (A)

Options :

5402503341. 1

5402503342. 2

5402503343. 3

5402503344. 4

Question Number : 66 Question Id : 540250836 Question Type : MCQ Option Shuffling : No Is

Question Mandatory : No Calculator : None Response Time : N.A Think Time : N.A Minimum

Instruction Time : 0

Correct Marks : 5 Wrong Marks : 1

Question Key Details :

Key	Value
Comprehension	MCQ

निम्नलिखित तकनीकी विकास को कालक्रमानुसार व्यवस्थित कीजिए।

- (A) सूचना तथा कम्प्यूटर
- (B) कृषि का विकास
- (C) स्वच्छता तथा चिकित्सा
- (D) औद्योगिक विकास

नीचे दिए गए विकल्पों में से सही उत्तर का चयन कीजिए :

- (1) (D), (B), (A), (C)
- (2) (D), (B), (C), (A)
- (3) (B), (D), (A), (C)
- (4) (B), (D), (C), (A)

Options :

5402503341. 1

5402503342. 2

5402503343. 3

5402503344. 4

Question Number : 67 Question Id : 540250837 Question Type : MCQ Option Shuffling : No Is

Question Mandatory : No Calculator : None Response Time : N.A Think Time : N.A Minimum

Instruction Time : 0

Correct Marks : 5 Wrong Marks : 1

Question Key Details :

Key	Value
Comprehension	MCQ

Arrange the states in a descending order of population density as per 2011 census.

- (A) Odisha
- (B) Uttar Pradesh
- (C) Bihar
- (D) Mizoram

Choose the **correct** answer from the options given below :

- (1) (B), (C), (D), (A)
- (2) (C), (B), (A), (D)
- (3) (C), (D), (B), (A)
- (4) (B), (A), (D), (C)

Options :

5402503345. 1

5402503346. 2

5402503347. 3

5402503348. 4

Question Number : 67 Question Id : 540250837 Question Type : MCQ Option Shuffling : No Is

Question Mandatory : No Calculator : None Response Time : N.A Think Time : N.A Minimum

Instruction Time : 0

Correct Marks : 5 Wrong Marks : 1

Question Key Details :

Key	Value
Comprehension	MCQ

2011 की जनगणना के अनुसार निम्न राज्यों की जनसंख्या घनत्व के अवरोही / घटते हुए क्रम में लगाएँ।

- (A) उड़ीसा
- (B) उत्तर प्रदेश
- (C) बिहार
- (D) मिज़ोरम

नीचे दिए गए विकल्पों में से सही उत्तर का चयन कीजिए :

- (1) (B), (C), (D), (A)
- (2) (C), (B), (A), (D)
- (3) (C), (D), (B), (A)
- (4) (B), (A), (D), (C)

Options :

5402503345. 1

5402503346. 2

5402503347. 3

5402503348. 4

Question Number : 68 Question Id : 540250838 Question Type : MCQ Option Shuffling : No Is

Question Mandatory : No Calculator : None Response Time : N.A Think Time : N.A Minimum

Instruction Time : 0

Correct Marks : 5 Wrong Marks : 1

Question Key Details :

Key	Value
Comprehension	MCQ

Arrange the following approaches of Human Geography in a chronological order.

- (A) Spatial Organisation
- (B) Post-modernism
- (C) Exploration and Description
- (D) Areal Differentiation

Choose the **correct** answer from the options given below :

- (1) (D), (C), (A), (B)
- (2) (D), (C), (B), (A)
- (3) (C), (D), (A), (B)
- (4) (C), (D), (B), (A)

Options :

5402503349. 1

5402503350. 2

5402503351. 3

5402503352. 4

Question Number : 68 Question Id : 540250838 Question Type : MCQ Option Shuffling : No Is

Question Mandatory : No Calculator : None Response Time : N.A Think Time : N.A Minimum

Instruction Time : 0

Correct Marks : 5 Wrong Marks : 1

Question Key Details :

Key	Value
Comprehension	MCQ

मानव भूगोल के निम्नलिखित उपागमों को कालक्रमानुसार व्यवस्थित कीजिए :

- (A) स्थानिक संगठन
- (B) उत्तर - आधुनिकवाद
- (C) अन्वेषण तथा विवरण
- (D) क्षेत्रीय विभेदीकरण

नीचे दिए गए विकल्पों में से सही उत्तर का चयन कीजिए :

- (1) (D), (C), (A), (B)
- (2) (D), (C), (B), (A)
- (3) (C), (D), (A), (B)
- (4) (C), (D), (B), (A)

Options :

5402503349. 1

5402503350. 2

5402503351. 3

5402503352. 4

Question Number : 69 Question Id : 540250839 Question Type : MCQ Option Shuffling : No Is

Question Mandatory : No Calculator : None Response Time : N.A Think Time : N.A Minimum

Instruction Time : 0

Correct Marks : 5 Wrong Marks : 1

Question Key Details :

Key	Value
Comprehension	MCQ

Match List - I with List - II.

List - I

Pillars of Human Development

- (A) Equity
- (B) Sustainability
- (C) Productivity
- (D) Empowerment

List - II

Characteristics

- (I) Power to make choices
- (II) Equal access to opportunities
- (III) Continuity in the availability
- (IV) Better work efficiency

Choose the **correct** answer from the options given below :

- (1) (A)-(IV), (B)-(III), (C)-(I), (D)-(II)
- (2) (A)-(IV), (B)-(II), (C)-(III), (D)-(I)
- (3) (A)-(II), (B)-(IV), (C)-(I), (D)-(III)
- (4) (A)-(II), (B)-(III), (C)-(IV), (D)-(I)

Options :

- 5402503353. 1
- 5402503354. 2
- 5402503355. 3
- 5402503356. 4

Question Number : 69 Question Id : 540250839 Question Type : MCQ Option Shuffling : No Is Question Mandatory : No Calculator : None Response Time : N.A Think Time : N.A Minimum Instruction Time : 0

Correct Marks : 5 Wrong Marks : 1

Question Key Details :

Key	Value
Comprehension	MCQ

सूची-I से सूची-II का मिलान कीजिए:

सूची-I	सूची-II
मानव विकास के स्तम्भ	विशेषता
(A) समता	(I) चुनाव करने की शक्ति
(B) सततता	(II) अवसरों तक समान पहुँच
(C) उत्पादकता	(III) उपलब्धता में निरंतरता
(D) सशक्तिकरण	(IV) बेहतर कार्यक्षमता

नीचे दिए गए विकल्पों में से सही उत्तर का चयन कीजिए :

- (1) (A)-(IV), (B)-(III), (C)-(I), (D)-(II)
- (2) (A)-(IV), (B)-(II), (C)-(III), (D)-(I)
- (3) (A)-(II), (B)-(IV), (C)-(I), (D)-(III)
- (4) (A)-(II), (B)-(III), (C)-(IV), (D)-(I)

Options :

5402503353. 1

5402503354. 2

5402503355. 3

5402503356. 4

Question Number : 70 Question Id : 540250840 Question Type : MCQ Option Shuffling : No Is

Question Mandatory : No Calculator : None Response Time : N.A Think Time : N.A Minimum

Instruction Time : 0

Correct Marks : 5 Wrong Marks : 1

Question Key Details :

Key	Value
Comprehension	MCQ

Match List - I with List - II.

List - I

(Approach)

- (A) Income Approach
- (B) Welfare Approach
- (C) Basic Needs Approach
- (D) Capability Approach

List - II

(Focus)

- (I) Focus on provision of basic needs
- (II) Build human capabilities and access to resources
- (III) Maximum expenditure on welfare
- (IV) Human development linked to income

Choose the **correct** answer from the options given below :

- (1) (A)-(IV), (B)-(III), (C)-(I), (D)-(II)
- (2) (A)-(IV), (B)-(II), (C)-(III), (D)-(I)
- (3) (A)-(III), (B)-(IV), (C)-(I), (D)-(II)
- (4) (A)-(II), (B)-(I), (C)-(III), (D)-(IV)

Options :

5402503357. 1

5402503358. 2

5402503359. 3

5402503360. 4

Question Number : 70 Question Id : 540250840 Question Type : MCQ Option Shuffling : No Is

Question Mandatory : No Calculator : None Response Time : N.A Think Time : N.A Minimum

Instruction Time : 0

Correct Marks : 5 Wrong Marks : 1

Question Key Details :

Key	Value
Comprehension	MCQ

सूची-I से सूची-II का मिलान कीजिए:

सूची-I

(उपागम)

- (A) आय उपागम
- (B) कल्याण उपागम
- (C) मूलभूत आवश्यकता उपागम
- (D) क्षमता उपागम

सूची-II

(केन्द्र)

- (I) मूलभूत जरूरतों के प्रावधान पर ध्यान
- (II) मानव क्षमताओं को बनाना तथा संसाधनों तक पहुँच
- (III) कल्याण पर अधिकतम खर्च
- (IV) मानव विकास को आय से जोड़ा गया

नीचे दिए गए विकल्पों में से सही उत्तर का चयन कीजिए :

- (1) (A)-(IV), (B)-(III), (C)-(I), (D)-(II)
- (2) (A)-(IV), (B)-(II), (C)-(III), (D)-(I)
- (3) (A)-(III), (B)-(IV), (C)-(I), (D)-(II)
- (4) (A)-(II), (B)-(I), (C)-(III), (D)-(IV)

Options :

5402503357. 1

5402503358. 2

5402503359. 3

5402503360. 4

Question Number : 71 Question Id : 540250841 Question Type : MCQ Option Shuffling : No Is

Question Mandatory : No Calculator : None Response Time : N.A Think Time : N.A Minimum

Instruction Time : 0

Correct Marks : 5 Wrong Marks : 1

Question Key Details :

Key	Value
Comprehension	MCQ

In which environment one can expect the presence of the clustered rural settlements ?

- (1) Alluvial plains of Ganga River
- (2) On small hills with farms or pastures on the slope
- (3) Ridges on the Himalayas
- (4) Thick forest and Hills of North-East

Options :

5402503361. 1

5402503362. 2

5402503363. 3

5402503364. 4

Question Number : 71 Question Id : 540250841 Question Type : MCQ Option Shuffling : No Is Question Mandatory : No Calculator : None Response Time : N.A Think Time : N.A Minimum Instruction Time : 0

Correct Marks : 5 Wrong Marks : 1

Question Key Details :

Key	Value
Comprehension	MCQ

निम्न में से किस पर्यावरण से, एक व्यक्ति गुच्छित ग्रामीण बस्तियों की उपस्थिति की आशा कर सकता है?

- (1) गंगा नदी के जलोढ मैदान
- (2) छोटे पहाड़ों पर खेत या ढालू पर चारागाह
- (3) हिमालय की निचली घाटियाँ
- (4) घने वन तथा उत्तर पूर्व के पहाड़

Options :

5402503361. 1

5402503362. 2

5402503363. 3

5402503364. 4

Question Number : 72 Question Id : 540250842 Question Type : MCQ Option Shuffling : No Is

Question Mandatory : No Calculator : None Response Time : N.A Think Time : N.A Minimum

Instruction Time : 0

Correct Marks : 5 Wrong Marks : 1

Question Key Details :

Key	Value
Comprehension	MCQ

Which one of the following is a cantonment town ?

- (1) Ambala
- (2) Raniganj
- (3) Bhilai
- (4) Jharia

Options :

5402503365. 1

5402503366. 2

5402503367. 3

5402503368. 4

Question Number : 72 Question Id : 540250842 Question Type : MCQ Option Shuffling : No Is

Question Mandatory : No Calculator : None Response Time : N.A Think Time : N.A Minimum

Instruction Time : 0

Correct Marks : 5 Wrong Marks : 1

Question Key Details :

Key	Value
Comprehension	MCQ

निम्न में से कौन-सा छावनी नगर है ?

- (1) अम्बाला
- (2) रानीगंज
- (3) भिलाई
- (4) झरिया

Options :

5402503365. 1

5402503366. 2

5402503367. 3

5402503368. 4

Question Number : 73 Question Id : 540250843 Question Type : MCQ Option Shuffling : No Is Question Mandatory : No Calculator : None Response Time : N.A Think Time : N.A Minimum Instruction Time : 0

Correct Marks : 5 Wrong Marks : 1

Question Key Details :

Key	Value
Comprehension	MCQ

Which one of the following crops is grown in all three cropping seasons in southern states of India ?

- (1) Maize
- (2) Jowar
- (3) Rice
- (4) Wheat

Options :

5402503369. 1

5402503370. 2

5402503371. 3

5402503372. 4

Question Number : 73 Question Id : 540250843 Question Type : MCQ Option Shuffling : No Is Question Mandatory : No Calculator : None Response Time : N.A Think Time : N.A Minimum Instruction Time : 0

Correct Marks : 5 Wrong Marks : 1

Question Key Details :

Key	Value
Comprehension	MCQ

निम्न में से कौन-सी फसल, भारत के दक्षिणी भाग के सभी तीन फसल मौसमों में उगायी जाती है ?

- (1) मक्का
- (2) ज्वार
- (3) चावल
- (4) गेहूँ

Options :

5402503369. 1

5402503370. 2

5402503371. 3

5402503372. 4

Question Number : 74 Question Id : 540250844 Question Type : MCQ Option Shuffling : No Is

Question Mandatory : No Calculator : None Response Time : N.A Think Time : N.A Minimum

Instruction Time : 0

Correct Marks : 5 Wrong Marks : 1

Question Key Details :

Key	Value
Comprehension	MCQ

In which of the following river basins, the replenishable utilization of water is the highest ?

- (1) Tapi
- (2) Narmada
- (3) Krishna
- (4) Mahanadi

Options :

5402503373. 1

5402503374. 2

5402503375. 3

5402503376. 4

Question Number : 74 Question Id : 540250844 Question Type : MCQ Option Shuffling : No Is

Question Mandatory : No Calculator : None Response Time : N.A Think Time : N.A Minimum

Instruction Time : 0

Correct Marks : 5 Wrong Marks : 1

Question Key Details :

Key	Value
Comprehension	MCQ

निम्नलिखित में से किसी नदी तट पर, जल का पुनःभरणीय उपयोग अधिकतम है ?

- (1) तापी
- (2) नर्मदा
- (3) कृष्णा
- (4) महानदी

Options :

5402503373. 1

5402503374. 2

5402503375. 3

5402503376. 4

Question Number : 75 Question Id : 540250845 Question Type : MCQ Option Shuffling : No Is

Question Mandatory : No Calculator : None Response Time : N.A Think Time : N.A Minimum

Instruction Time : 0

Correct Marks : 5 Wrong Marks : 1

Question Key Details :

Key	Value
Comprehension	MCQ

Which water development projects is sponsored by Central Government ?

- (1) Johad scheme
- (2) Arvary Pani Sansad
- (3) Neeru Meeru
- (4) Haryali

Options :

5402503377. 1

5402503378. 2

5402503379. 3

5402503380. 4

Question Number : 75 Question Id : 540250845 Question Type : MCQ Option Shuffling : No Is Question Mandatory : No Calculator : None Response Time : N.A Think Time : N.A Minimum Instruction Time : 0

Correct Marks : 5 Wrong Marks : 1

Question Key Details :

Key	Value
Comprehension	MCQ

निम्न में से कौन-सा जल विकास परियोजना केन्द्र सरकार द्वारा प्रायोजित है ?

- (1) जोहड़ योजना
- (2) आरवरी पानी संसद
- (3) नीरू - मीरू
- (4) हरियाली

Options :

5402503377. 1

5402503378. 2

5402503379. 3

5402503380. 4

Question Number : 76 Question Id : 540250846 Question Type : MCQ Option Shuffling : No Is Question Mandatory : No Calculator : None Response Time : N.A Think Time : N.A Minimum Instruction Time : 0

Correct Marks : 5 Wrong Marks : 1

Question Key Details :

Key	Value
Comprehension	MCQ

Which one of the following is a metallic mineral ?

- (1) Copper
- (2) Limestone
- (3) Mica
- (4) Graphite

Options :

5402503381. 1

5402503382. 2

5402503383. 3

5402503384. 4

Question Number : 76 Question Id : 540250846 Question Type : MCQ Option Shuffling : No Is

Question Mandatory : No Calculator : None Response Time : N.A Think Time : N.A Minimum

Instruction Time : 0

Correct Marks : 5 Wrong Marks : 1

Question Key Details :

Key	Value
Comprehension	MCQ

निम्न में से कौन-सा धातु खनिज है ?

- (1) ताँबा
- (2) लाइमस्टोन (चूना)
- (3) अभ्रक
- (4) ग्रेफाइट

Options :

5402503381. 1

5402503382. 2

5402503383. 3

5402503384. 4

Question Number : 77 Question Id : 540250847 Question Type : MCQ Option Shuffling : No Is

Question Mandatory : No Calculator : None Response Time : N.A Think Time : N.A Minimum

Instruction Time : 0

Correct Marks : 5 Wrong Marks : 1

Question Key Details :

Key	Value
Comprehension	MCQ

The Petrofils Cooperative Limited (PCL), a joint venture of Government of India and Weaver's Cooperative plant is located at :

- (1) Pinjore
- (2) Vadodara
- (3) Lucknow
- (4) Jodhpur

Options :

5402503385. 1

5402503386. 2

5402503387. 3

5402503388. 4

Question Number : 77 Question Id : 540250847 Question Type : MCQ Option Shuffling : No Is

Question Mandatory : No Calculator : None Response Time : N.A Think Time : N.A Minimum

Instruction Time : 0

Correct Marks : 5 Wrong Marks : 1

Question Key Details :

Key	Value
Comprehension	MCQ

पेट्रोफिल्स कोऑपरेटिव लिमिटेड (PCL) भारत सरकार तथा बुनकर सहकारी का संयुक्त उपक्रम, संयंत्र स्थित है?

- (1) पिंजौर
- (2) वड़ोदरा
- (3) लखनऊ
- (4) जोधपुर

Options :

5402503385. 1

5402503386. 2

5402503387. 3

5402503388. 4

Question Number : 78 Question Id : 540250848 Question Type : MCQ Option Shuffling : No Is Question Mandatory : No Calculator : None Response Time : N.A Think Time : N.A Minimum Instruction Time : 0

Correct Marks : 5 Wrong Marks : 1

Question Key Details :

Key	Value
Comprehension	MCQ

The National Highways Authority of India was operationalised in _____.

(1) 1995

(2) 1993

(3) 1992

(4) 1990

Options :

5402503389. 1

5402503390. 2

5402503391. 3

5402503392. 4

Question Number : 78 Question Id : 540250848 Question Type : MCQ Option Shuffling : No Is Question Mandatory : No Calculator : None Response Time : N.A Think Time : N.A Minimum Instruction Time : 0

Correct Marks : 5 Wrong Marks : 1

Question Key Details :

Key	Value
Comprehension	MCQ

भारतीय राष्ट्रीय महामार्ग प्राधिकरण कार्यशील हुआ था _____ ।

- (1) 1995
- (2) 1993
- (3) 1992
- (4) 1990

Options :

5402503389. 1

5402503390. 2

5402503391. 3

5402503392. 4

Question Number : 79 Question Id : 540250849 Question Type : MCQ Option Shuffling : No Is Question Mandatory : No Calculator : None Response Time : N.A Think Time : N.A Minimum Instruction Time : 0

Correct Marks : 5 Wrong Marks : 1

Question Key Details :

Key	Value
Comprehension	MCQ

The roads laid along international boundaries are known as _____.

- (1) National Roads
- (2) Border Roads
- (3) Military Roads
- (4) Undulating Roads

Options :

5402503393. 1

5402503394. 2

5402503395. 3

5402503396. 4

Question Number : 79 Question Id : 540250849 Question Type : MCQ Option Shuffling : No Is Question Mandatory : No Calculator : None Response Time : N.A Think Time : N.A Minimum

Instruction Time : 0

Correct Marks : 5 Wrong Marks : 1

Question Key Details :

Key	Value
Comprehension	MCQ

सड़के जो अंतर्राष्ट्रीय सीमाओं के साथ बनायी जाती हैं, कहलाती हैं _____ ।

- (1) राष्ट्रीय सड़क
- (2) सीमा सड़क
- (3) सैन्य सड़क
- (4) लहरदार सड़क

Options :

5402503393. 1

5402503394. 2

5402503395. 3

5402503396. 4

Question Number : 80 Question Id : 540250850 Question Type : MCQ Option Shuffling : No Is

Question Mandatory : No Calculator : None Response Time : N.A Think Time : N.A Minimum

Instruction Time : 0

Correct Marks : 5 Wrong Marks : 1

Question Key Details :

Key	Value
Comprehension	MCQ

The Indian Railways is divided into how many zones ?

- (1) 9
- (2) 12
- (3) 16
- (4) 21

Options :

5402503397. 1

5402503398. 2

5402503399. 3

5402503400. 4

Question Number : 80 Question Id : 540250850 Question Type : MCQ Option Shuffling : No Is Question Mandatory : No Calculator : None Response Time : N.A Think Time : N.A Minimum Instruction Time : 0

Correct Marks : 5 Wrong Marks : 1

Question Key Details :

Key	Value
Comprehension	MCQ

भारतीय रेलवे निम्न में से कितने मंडलों में वर्गीकृत है ?

- (1) 9
- (2) 12
- (3) 16
- (4) 21

Options :

5402503397. 1

5402503398. 2

5402503399. 3

5402503400. 4

Question Number : 81 Question Id : 540250851 Question Type : MCQ Option Shuffling : No Is Question Mandatory : No Calculator : None Response Time : N.A Think Time : N.A Minimum Instruction Time : 0

Correct Marks : 5 Wrong Marks : 1

Question Key Details :

Key	Value
Comprehension	MCQ

Which one is **NOT** a cause of water pollution ?

- (1) Urbanisation
- (2) Landslides
- (3) Rainfall
- (4) Industrialisation

Options :

5402503401. 1

5402503402. 2

5402503403. 3

5402503404. 4

Question Number : 81 Question Id : 540250851 Question Type : MCQ Option Shuffling : No Is

Question Mandatory : No Calculator : None Response Time : N.A Think Time : N.A Minimum

Instruction Time : 0

Correct Marks : 5 Wrong Marks : 1

Question Key Details :

Key	Value
Comprehension	MCQ

निम्न में से कौन-सा जल प्रदूषण का कारक नहीं है ?

- (1) नगरीकरण
- (2) भूस्खलन
- (3) वर्षावृष्टि
- (4) औद्योगिकरण

Options :

5402503401. 1

5402503402. 2

5402503403. 3

5402503404. 4

Question Number : 82 Question Id : 540250852 Question Type : MCQ Option Shuffling : No Is

Question Mandatory : No Calculator : None Response Time : N.A Think Time : N.A Minimum

Instruction Time : 0

Correct Marks : 5 Wrong Marks : 1

Question Key Details :

Key	Value
Comprehension	MCQ

Slums are inhabited by which of the following ?

- (1) Well-off people
- (2) Higher-middle class
- (3) Middle class
- (4) Lower income people

Options :

5402503405. 1

5402503406. 2

5402503407. 3

5402503408. 4

Question Number : 82 Question Id : 540250852 Question Type : MCQ Option Shuffling : No Is

Question Mandatory : No Calculator : None Response Time : N.A Think Time : N.A Minimum

Instruction Time : 0

Correct Marks : 5 Wrong Marks : 1

Question Key Details :

Key	Value
Comprehension	MCQ

स्लम / झुग्गियों में आवासित, निम्न में से कौन है ?

- (1) सम्पन्न व्यक्ति
- (2) उच्च-मध्यम वर्ग
- (3) मध्यम वर्ग
- (4) निम्न आय व्यक्ति

Options :

5402503405. 1

5402503406. 2

5402503407. 3

5402503408. 4

Question Number : 83 Question Id : 540250853 Question Type : MCQ Option Shuffling : No Is Question Mandatory : No Calculator : None Response Time : N.A Think Time : N.A Minimum Instruction Time : 0

Correct Marks : 5 Wrong Marks : 1

Question Key Details :

Key	Value
Comprehension	MCQ

Arrange the following river basins according to their area in a descending order.

- (A) Mahanadi basin
- (B) Tapi basin
- (C) Ganga basin
- (D) Godavari basin

Choose the **correct** answer from the options given below :

- (1) (C), (D), (B), (A)
- (2) (C), (D), (A), (B)
- (3) (C), (A), (D), (B)
- (4) (C), (A), (B), (D)

Options :

5402503409. 1

5402503410. 2

5402503411. 3

5402503412. 4

Question Number : 83 Question Id : 540250853 Question Type : MCQ Option Shuffling : No Is Question Mandatory : No Calculator : None Response Time : N.A Think Time : N.A Minimum Instruction Time : 0

Correct Marks : 5 Wrong Marks : 1

Question Key Details :

Key	Value
Comprehension	MCQ

निम्नलिखित नदी बेसिनों को उनके क्षेत्र के अनुसार अवरोही क्रम / घटते हुए क्रम में व्यवस्थित करें।

- (A) महानदी बेसिन
- (B) तापी बेसिन
- (C) गंगा बेसिन
- (D) गोदावरी बेसिन

नीचे दिए गए विकल्पों में से सही उत्तर का चयन कीजिए :

- (1) (C), (D), (B), (A)
- (2) (C), (D), (A), (B)
- (3) (C), (A), (D), (B)
- (4) (C), (A), (B), (D)

Options :

5402503409. 1

5402503410. 2

5402503411. 3

5402503412. 4

Question Number : 84 Question Id : 540250854 Question Type : MCQ Option Shuffling : No Is

Question Mandatory : No Calculator : None Response Time : N.A Think Time : N.A Minimum

Instruction Time : 0

Correct Marks : 5 Wrong Marks : 1

Question Key Details :

Key	Value
Comprehension	MCQ

Arrange the given historical developments in radio broadcasting in India in a chronological order.

- (A) Akashwani
- (B) All India Radio
- (C) Radio broadcasting brought under the Indian broadcasting system
- (D) Radio broadcasting started

Choose the **correct** answer from the options given below :

- (1) (D), (B), (C), (A)
- (2) (D), (C), (B), (A)
- (3) (D), (A), (B), (C)
- (4) (D), (A), (C), (B)

Options :

5402503413. 1

5402503414. 2

5402503415. 3

5402503416. 4

Question Number : 84 Question Id : 540250854 Question Type : MCQ Option Shuffling : No Is

Question Mandatory : No Calculator : None Response Time : N.A Think Time : N.A Minimum

Instruction Time : 0

Correct Marks : 5 Wrong Marks : 1

Question Key Details :

Key	Value
Comprehension	MCQ

भारत में रेडियो प्रसारण के ऐतिहासिक विकासों को कालक्रमानुसार व्यवस्थित कीजिए।

- (A) आकाशवाणी
- (B) ऑल इंडिया रेडियो
- (C) रेडियो प्रसारण को भारतीय प्रसारण प्रणाली के अंतर्गत लाया गया
- (D) रेडियो प्रसारण की शुरुआत

नीचे दिए गए विकल्पों में से सही उत्तर का चयन कीजिए :

- (1) (D), (B), (C), (A)
- (2) (D), (C), (B), (A)
- (3) (D), (A), (B), (C)
- (4) (D), (A), (C), (B)

Options :

5402503413. 1

5402503414. 2

5402503415. 3

5402503416. 4

Question Number : 85 Question Id : 540250855 Question Type : MCQ Option Shuffling : No Is

Question Mandatory : No Calculator : None Response Time : N.A Think Time : N.A Minimum

Instruction Time : 0

Correct Marks : 5 Wrong Marks : 1

Question Key Details :

Key	Value
Comprehension	MCQ

Which of the following characteristics of rainwater harvesting are correct ?

- (A) It is a method to capture and store rainwater
- (B) It is complicated and requires huge finances
- (C) It is an eco-friendly technique
- (D) It can be done by harvesting rainwater on rooftops and open spaces

Choose the **correct** answer from the options given below :

- (1) (A), (B) and (C) Only
- (2) (A), (C) and (D) Only
- (3) (B), (C) and (D) Only
- (4) (A), (B) and (D) Only

Options :

5402503417. 1

5402503418. 2

5402503419. 3

5402503420. 4

Question Number : 85 Question Id : 540250855 Question Type : MCQ Option Shuffling : No Is

Question Mandatory : No Calculator : None Response Time : N.A Think Time : N.A Minimum

Instruction Time : 0

Correct Marks : 5 Wrong Marks : 1

Question Key Details :

Key	Value
Comprehension	MCQ

वर्षा जल संग्रहण के निम्नलिखित विशेषताओं में से कौनसे सही हैं ?

- (A) यह वर्षा जल को एकत्रित व संग्रहण की एक विधि है
- (B) यह जटिल तथा अत्याधिक वित्त की आवश्यकता वाली है
- (C) यह एक पर्यावरण मित्र वाली तकनीक है
- (D) यह छतों तथा खुले स्थानों पर वर्षा जल संग्रहण करके की जा सकती है

नीचे दिए गए विकल्पों में से सही उत्तर का चयन कीजिए :

- (1) केवल (A), (B) और (C)
- (2) केवल (A), (C) और (D)
- (3) केवल (B), (C) और (D)
- (4) केवल (A), (B) और (D)

Options :

5402503417. 1

5402503418. 2

5402503419. 3

5402503420. 4

Question Number : 86 Question Id : 540250856 Question Type : MCQ Option Shuffling : No Is

Question Mandatory : No Calculator : None Response Time : N.A Think Time : N.A Minimum

Instruction Time : 0

Correct Marks : 5 Wrong Marks : 1

Question Key Details :

Key	Value
Comprehension	MCQ

Which of the following causes of establishing Iron and Steel Industries in West Bengal, Odisha and Jharkhand are correct ?

- (A) Availability of water from rivers
- (B) Availability of high grade iron ore
- (C) Availability of forest resources
- (D) Availability of coal for fuel in the proximity

Choose the **correct** answer from the options given below :

- (1) (A), (B), (D) Only
- (2) (A), (B), (C) Only
- (3) (A), (C), (D) Only
- (4) (B), (C), (D) Only

Options :

5402503421. 1

5402503422. 2

5402503423. 3

5402503424. 4

Question Number : 86 Question Id : 540250856 Question Type : MCQ Option Shuffling : No Is

Question Mandatory : No Calculator : None Response Time : N.A Think Time : N.A Minimum

Instruction Time : 0

Correct Marks : 5 Wrong Marks : 1

Question Key Details :

Key	Value
Comprehension	MCQ

पश्चिम बंगाल, उड़ीसा तथा झारखंड में लौह व इस्पात उद्योग की स्थापना के कारणों में से कौनसे सही हैं ?

- (A) नदी से जल की उपलब्धता
- (B) उच्च ग्रेड लौह अयस्क की उपलब्धता
- (C) वन संसाधनों की उपलब्धता
- (D) ईंधन के लिए कोयले की उपलब्धता का समीप होना

नीचे दिए गए विकल्पों में से सही उत्तर का चयन कीजिए :

- (1) केवल (A), (B), (D)
- (2) केवल (A), (B), (C)
- (3) केवल (A), (C), (D)
- (4) केवल (B), (C), (D)

Options :

5402503421. 1

5402503422. 2

5402503423. 3

5402503424. 4

Question Number : 87 Question Id : 540250857 Question Type : MCQ Option Shuffling : No Is Question Mandatory : No Calculator : None Response Time : N.A Think Time : N.A Minimum Instruction Time : 0

Correct Marks : 5 Wrong Marks : 1

Question Key Details :

Key	Value
Comprehension	MCQ

Which of the following points about roles and responsibilities of Border Road Organisation are correct ?

- (A) Construction of roads in high altitude areas
- (B) Maintenance of roads in strategically sensitive areas
- (C) Snow clearance from high altitude roads
- (D) Maintenance of rural roads in plain areas

Choose the **correct** answer from the options given below :

- (1) (A), (B), (D) Only
- (2) (A), (C), (D) Only
- (3) (B), (C), (D) Only
- (4) (A), (B), (C) Only

Options :

5402503425. 1

5402503426. 2

5402503427. 3

5402503428. 4

Question Number : 87 Question Id : 540250857 Question Type : MCQ Option Shuffling : No Is

Question Mandatory : No Calculator : None Response Time : N.A Think Time : N.A Minimum

Instruction Time : 0

Correct Marks : 5 Wrong Marks : 1

Question Key Details :

Key	Value
Comprehension	MCQ

सीमा सड़क संगठन की भूमिका व जिम्मेदारियों के बारे में दिए गए बिन्दुओं में से कौनसे सही हैं?

- (A) ऊँचाई वाले क्षेत्रों में सड़कों का निर्माण
- (B) सामरिक संवेदी क्षेत्रों में सड़कों का रखरखाव
- (C) ऊँचाई वाले क्षेत्रों में सड़कों से बर्फ हटाना
- (D) समतल क्षेत्रों में ग्रामीण सड़कों का रखरखाव

नीचे दिए गए विकल्पों में से सही उत्तर का चयन कीजिए :

- (1) केवल (A), (B), (D)
- (2) केवल (A), (C), (D)
- (3) केवल (B), (C), (D)
- (4) केवल (A), (B), (C)

Options :

5402503425. 1

5402503426. 2

5402503427. 3

5402503428. 4

Question Number : 88 Question Id : 540250858 Question Type : MCQ Option Shuffling : No Is Question Mandatory : No Calculator : None Response Time : N.A Think Time : N.A Minimum Instruction Time : 0

Correct Marks : 5 Wrong Marks : 1

Question Key Details :

Key	Value
Comprehension	MCQ

Match the Industry type and basis on which it is (how it is) classified

List - I

Basis of Classification

- (A) Ownership
- (B) Capital investment
- (C) Use of their products
- (D) Raw materials used by them

List - II

Category

- (I) Consumer goods
- (II) Mineral based
- (III) Private sector
- (IV) Cottage industry

Choose the **correct** answer from the options given below :

- (1) (A)-(II), (B)-(I), (C)-(III), (D)-(IV)
- (2) (A)-(III), (B)-(IV), (C)-(I), (D)-(II)
- (3) (A)-(III), (B)-(II), (C)-(IV), (D)-(I)
- (4) (A)-(III), (B)-(II), (C)-(I), (D)-(IV)

Options :

- 5402503429. 1
- 5402503430. 2
- 5402503431. 3
- 5402503432. 4

Question Number : 88 Question Id : 540250858 Question Type : MCQ Option Shuffling : No Is Question Mandatory : No Calculator : None Response Time : N.A Think Time : N.A Minimum Instruction Time : 0

Correct Marks : 5 Wrong Marks : 1

Question Key Details :

Key	Value
Comprehension	MCQ

उद्योग के प्रकार को उसके वर्गीकरण के हिसाब से सुमेलित करें :

वर्गीकरण का आधार	वर्ग
(A) स्वामित्व	(I) उपभोक्ता वस्तुएँ
(B) पूँजी निवेश	(II) खनिज आधारित
(C) उनके उत्पादों का प्रयोग	(III) निजी क्षेत्र
(D) उनके द्वारा कच्चा माल प्रयोग किया जाना	(IV) कुटीर उद्योग

नीचे दिए गए विकल्पों में से सही उत्तर का चयन कीजिए :

- (1) (A)-(II), (B)-(I), (C)-(III), (D)-(IV)
- (2) (A)-(III), (B)-(IV), (C)-(I), (D)-(II)
- (3) (A)-(III), (B)-(II), (C)-(IV), (D)-(I)
- (4) (A)-(III), (B)-(II), (C)-(I), (D)-(IV)

Options :

5402503429. 1

5402503430. 2

5402503431. 3

5402503432. 4

Question Number : 89 Question Id : 540250859 Question Type : MCQ Option Shuffling : No Is

Question Mandatory : No Calculator : None Response Time : N.A Think Time : N.A Minimum

Instruction Time : 0

Correct Marks : 5 Wrong Marks : 1

Question Key Details :

Key	Value
Comprehension	MCQ

Match List - I with List - II :

List - I

Ports

- (A) Ennore
- (B) Paradwip
- (C) Kandla
- (D) Kochchi

List - II

States

- (I) Odisha
- (II) Tamil Nadu
- (III) Kerala
- (IV) Gujarat

Choose the **correct** answer from the options given below :

- (1) (A)-(II), (B)-(I), (C)-(III), (D)-(IV)
- (2) (A)-(II), (B)-(I), (C)-(IV), (D)-(III)
- (3) (A)-(II), (B)-(IV), (C)-(I), (D)-(III)
- (4) (A)-(II), (B)-(IV), (C)-(III), (D)-(I)

Options :

5402503433. 1

5402503434. 2

5402503435. 3

5402503436. 4

Question Number : 89 Question Id : 540250859 Question Type : MCQ Option Shuffling : No Is

Question Mandatory : No Calculator : None Response Time : N.A Think Time : N.A Minimum

Instruction Time : 0

Correct Marks : 5 Wrong Marks : 1

Question Key Details :

Key	Value
Comprehension	MCQ

सूची-I से सूची-II का मिलान कीजिए:

सूची-I	सूची-II
पत्तन	राज्य
(A) एन्नोर	(I) उड़ीसा
(B) पाराद्वीप	(II) तमिलनाडू
(C) कांदला	(III) केरल
(D) कोच्चि	(IV) गुजरात

नीचे दिए गए विकल्पों में से सही उत्तर का चयन कीजिए :

- (1) (A)-(II), (B)-(I), (C)-(III), (D)-(IV)
- (2) (A)-(II), (B)-(I), (C)-(IV), (D)-(III)
- (3) (A)-(II), (B)-(IV), (C)-(I), (D)-(III)
- (4) (A)-(II), (B)-(IV), (C)-(III), (D)-(I)

Options :

5402503433. 1

5402503434. 2

5402503435. 3

5402503436. 4

Question Number : 90 Question Id : 540250860 Question Type : MCQ Option Shuffling : No Is

Question Mandatory : No Calculator : None Response Time : N.A Think Time : N.A Minimum

Instruction Time : 0

Correct Marks : 5 Wrong Marks : 1

Question Key Details :

Key	Value
Comprehension	MCQ

Match List - I with List - II :

List - I

Pollution Types

- (A) Air Pollution
- (B) Water Pollution
- (C) Land Pollution
- (D) Noise Pollution

List - II

Sources of Pollution

- (I) Use of pesticides
- (II) Advertising media
- (III) Combustion of coal
- (IV) Effluents from industries

Choose the **correct** answer from the options given below :

- (1) (A)-(I), (B)-(III), (C)-(IV), (D)-(II)
- (2) (A)-(II), (B)-(IV), (C)-(I), (D)-(III)
- (3) (A)-(III), (B)-(IV), (C)-(I), (D)-(II)
- (4) (A)-(IV), (B)-(II), (C)-(III), (D)-(I)

Options :

- 5402503437. 1
- 5402503438. 2
- 5402503439. 3
- 5402503440. 4

Question Number : 90 Question Id : 540250860 Question Type : MCQ Option Shuffling : No Is Question Mandatory : No Calculator : None Response Time : N.A Think Time : N.A Minimum Instruction Time : 0

Correct Marks : 5 Wrong Marks : 1

Question Key Details :

Key	Value
Comprehension	MCQ

सूची-I से सूची-II का मिलान कीजिए:

सूची-I

प्रदूषण प्रकार

- (A) वायु प्रदूषण
- (B) जल प्रदूषण
- (C) भूमि प्रदूषण
- (D) ध्वनि प्रदूषण

सूची-II

प्रदूषण का स्रोत

- (I) कीटनाशकों का प्रयोग
- (II) विज्ञापन माध्यम
- (III) कोयले का दहन
- (IV) उद्योगों से अपशिष्ट बहिस्त्राव

नीचे दिए गए विकल्पों में से सही उत्तर का चयन कीजिए :

- (1) (A)-(I), (B)-(III), (C)-(IV), (D)-(II)
- (2) (A)-(II), (B)-(IV), (C)-(I), (D)-(III)
- (3) (A)-(III), (B)-(IV), (C)-(I), (D)-(II)
- (4) (A)-(IV), (B)-(II), (C)-(III), (D)-(I)

Options :

- 5402503437. 1
- 5402503438. 2
- 5402503439. 3
- 5402503440. 4

Sub-Section Number :

2

Sub-Section Id :

54025063

Question Shuffling Allowed :

No

Is Section Default? :

null

Question Number : 91 Question Id : 540250861 Question Type : MCQ Option Shuffling : No Is Question Mandatory : No Calculator : None Response Time : N.A Think Time : N.A Minimum Instruction Time : 0

Correct Marks : 5 Wrong Marks : 1

Question Key Details :

Key	Value
Comprehension	Comp1

Read the given passage and answer following question

Concept of High Technology Industry

High technology, or simply high-tech, is the latest generation of manufacturing activities. It is best understood as the application of intensive research and development (R and D) efforts leading to the manufacture of products of an advanced scientific and engineering character. Professional (white collar) workers make up a large share of the total workforce. These highly skilled specialists greatly outnumber the actual production (blue collar) workers. Robotics on the assembly line, computer-aided design (CAD) and manufacturing, electronic controls of smelting and refining processes, and the constant development of new chemical and pharmaceutical products are notable examples of a high-tech industry.

Neatly spaced, low, modern, dispersed, office-plant-lab buildings rather than massive assembly structures, factories and storage areas mark the high-tech industrial landscape. Planned business parks for high-tech start-ups have become part of regional and local development schemes.

High-tech industries which are regionally concentrated, self-sustained and highly specialised are called technopolies. The Silicon Valley near San Francisco and Silicon Forest near Seattle are examples of technopolies. Are some technopolies developing in India ?

High Technology Manufacturing Industries are example of _____.

- (1) Primary Activities
- (2) Secondary Activities
- (3) Tertiary Activities
- (4) Quaternary Activities

Options :

5402503441. 1

5402503442. 2

5402503443. 3

5402503444. 4

Question Number : 91 Question Id : 540250861 Question Type : MCQ Option Shuffling : No Is Question Mandatory : No Calculator : None Response Time : N.A Think Time : N.A Minimum Instruction Time : 0

Correct Marks : 5 Wrong Marks : 1

Question Key Details :

Key	Value
-----	-------

दिए गए अनुच्छेद को ध्यानपूर्वक पढ़िए तथा प्रश्न का उत्तर दीजिए :

उच्च प्रौद्योगिकी उद्योग की संकल्पना

निर्माण क्रियाओं में उच्च प्रौद्योगिकी नवीनतम पीढ़ी है। इसमें उन्नत वैज्ञानिक एवं इंजीनियरिंग उत्पादकों का निर्माण गहन शोध एवं विकास के द्वारा किया जाता है। संपूर्ण श्रमिक शक्ति का अधिकतर भाग व्यावसायिक (सफ़ेद कॉलर) श्रमिकों का होता है। ये उच्च, दक्ष एवं विशिष्ट व्यावसायिक श्रमिक वास्तविक उत्पादन (नीला कॉलर) श्रमिकों से संख्या में अधिकतम होते हैं। उच्च प्रौद्योगिकी उद्योग में यंत्रमानव, कंप्यूटर आधारित डिज़ाइन (कैड) तथा निर्माण, धातु पिघलाने एवं शोधन के इलेक्ट्रॉनिक नियंत्रण एवं नए रासायनिक व औषधीय उत्पादन प्रमुख स्थान रखते हैं।

इस भूदृश्य में विशाल भवनों, कारखानों एवं भंडार क्षेत्रों के स्थान पर आधुनिक, नीचे साफ़-सुथरे, बिखरे कार्यालय एवं प्रयोगशालाएँ देखने को मिलती हैं। इस समय जो भी प्रादेशिक व स्थानीय विकास की योजनाएँ बन रही हैं उनमें नियोजित व्यवसाय पार्क का निर्माण किया जा रहा है।

वे उच्च प्रौद्योगिकी उद्योग जो प्रादेशिक संकेंद्रित हैं, आत्मनिर्भर एवं उच्च विशिष्टता लिए होते हैं उन्हें प्रौद्योगिक ध्रुव कहा जाता है। सेन फ्रांसिस्को के समीप सिलीकन घाटी एवं सियटल के समीप सिलीकन वन प्रौद्योगिक ध्रुव के अच्छे उदाहरण हैं। क्या भारत में कुछ प्रौद्योगिकी ध्रुव विकसित हो रहे हैं?

उच्च प्रौद्योगिकी विनिर्माण उद्योग के उदाहरण है _____।

- (1) प्राथमिक क्रियाएँ
- (2) द्वितीयक क्रियाएँ
- (3) तृतीयक क्रियाएँ
- (4) चतुर्थक क्रियाएँ

Options :

5402503441. 1

5402503442. 2

5402503443. 3

5402503444. 4

Question Number : 92 Question Id : 540250862 Question Type : MCQ Option Shuffling : No Is Question Mandatory : No Calculator : None Response Time : N.A Think Time : N.A Minimum Instruction Time : 0

Correct Marks : 5 Wrong Marks : 1

Question Key Details :

Key	Value
Comprehension	Comp1

Read the given passage and answer following question

Concept of High Technology Industry

High technology, or simply high-tech, is the latest generation of manufacturing activities. It is best understood as the application of intensive research and development (R and D) efforts leading to the manufacture of products of an advanced scientific and engineering character. Professional (white collar) workers make up a large share of the total workforce. These highly skilled specialists greatly outnumber the actual production (blue collar) workers. Robotics on the assembly line, computer-aided design (CAD) and manufacturing, electronic controls of smelting and refining processes, and the constant development of new chemical and pharmaceutical products are notable examples of a high-tech industry.

Neatly spaced, low, modern, dispersed, office-plant-lab buildings rather than massive assembly structures, factories and storage areas mark the high-tech industrial landscape. Planned business parks for high-tech start-ups have become part of regional and local development schemes.

High-tech industries which are regionally concentrated, self-sustained and highly specialised are called technopolies. The Silicon Valley near San Francisco and Silicon Forest near Seattle are examples of technopolies. Are some technopolies developing in India ?

Manufacturing of advanced scientific products is possible with the application of :

- (1) Research and development
- (2) Retrofitting
- (3) Traditional techniques
- (4) More unskilled workforce

Options :

5402503445. 1

5402503446. 2

5402503447. 3

5402503448. 4

Question Number : 92 Question Id : 540250862 Question Type : MCQ Option Shuffling : No Is Question Mandatory : No Calculator : None Response Time : N.A Think Time : N.A Minimum Instruction Time : 0

Correct Marks : 5 Wrong Marks : 1

Question Key Details :

Key	Value
Comprehension	Comp1

दिए गए अनुच्छेद को ध्यानपूर्वक पढ़िए तथा प्रश्न का उत्तर दीजिए :

उच्च प्रौद्योगिकी उद्योग की संकल्पना

निर्माण क्रियाओं में उच्च प्रौद्योगिकी नवीनतम पीढ़ी है। इसमें उन्नत वैज्ञानिक एवं इंजीनियरिंग उत्पादकों का निर्माण गहन शोध एवं विकास के द्वारा किया जाता है। संपूर्ण श्रमिक शक्ति का अधिकतर भाग व्यावसायिक (सफ़ेद कॉलर) श्रमिकों का होता है। ये उच्च, दक्ष एवं विशिष्ट व्यावसायिक श्रमिक वास्तविक उत्पादन (नीला कॉलर) श्रमिकों से संख्या में अधिकतम होते हैं। उच्च प्रौद्योगिकी उद्योग में यंत्रमानव, कंप्यूटर आधारित डिज़ाइन (कैड) तथा निर्माण, धातु पिघलाने एवं शोधन के इलेक्ट्रॉनिक नियंत्रण एवं नए रासायनिक व औषधीय उत्पादन प्रमुख स्थान रखते हैं।

इस भूदृश्य में विशाल भवनों, कारखानों एवं भंडार क्षेत्रों के स्थान पर आधुनिक, नीचे साफ़-सुथरे, बिखरे कार्यालय एवं प्रयोगशालाएँ देखने को मिलती हैं। इस समय जो भी प्रादेशिक व स्थानीय विकास की योजनाएँ बन रही हैं उनमें नियोजित व्यवसाय पार्क का निर्माण किया जा रहा है।

वे उच्च प्रौद्योगिकी उद्योग जो प्रादेशिक संकेंद्रित हैं, आत्मनिर्भर एवं उच्च विशिष्टता लिए होते हैं उन्हें प्रौद्योगिक ध्रुव कहा जाता है। सेन फ्रांसिस्को के समीप सिलिकन घाटी एवं सियटल के समीप सिलिकन वन प्रौद्योगिक ध्रुव के अच्छे उदाहरण हैं। क्या भारत में कुछ प्रौद्योगिकी ध्रुव विकसित हो रहे हैं?

अग्रिम वैज्ञानिक उत्पादों का विनिर्माण, इसके प्रयोग से संभव है :

- (1) शोध तथा विकास
- (2) पुनः संयोजन
- (3) परंपरागत तकनीक
- (4) अधिक अकुशल कार्यबल

Options :

5402503445. 1

5402503446. 2

5402503447. 3

5402503448. 4

Question Mandatory : No Calculator : None Response Time : N.A Think Time : N.A Minimum

Instruction Time : 0

Correct Marks : 5 Wrong Marks : 1

Question Key Details :

Key	Value
Comprehension	Comp1

Read the given passage and answer following question

Concept of High Technology Industry

High technology, or simply high-tech, is the latest generation of manufacturing activities. It is best understood as the application of intensive research and development (R and D) efforts leading to the manufacture of products of an advanced scientific and engineering character. Professional (white collar) workers make up a large share of the total workforce. These highly skilled specialists greatly outnumber the actual production (blue collar) workers. Robotics on the assembly line, computer-aided design (CAD) and manufacturing, electronic controls of smelting and refining processes, and the constant development of new chemical and pharmaceutical products are notable examples of a high-tech industry.

Neatly spaced, low, modern, dispersed, office-plant-lab buildings rather than massive assembly structures, factories and storage areas mark the high-tech industrial landscape. Planned business parks for high-tech start-ups have become part of regional and local development schemes.

High-tech industries which are regionally concentrated, self-sustained and highly specialised are called technopolies. The Silicon Valley near San Francisco and Silicon Forest near Seattle are examples of technopolies. Are some technopolies developing in India ?

Which workers make up large share of the total workforce in these industries ?

- (1) Blue collar
- (2) White collar
- (3) Gold collar
- (4) Pink collar

Options :

5402503449. 1

5402503450. 2

5402503451. 3

5402503452. 4

Question Number : 93 Question Id : 540250863 Question Type : MCQ Option Shuffling : No Is Question Mandatory : No Calculator : None Response Time : N.A Think Time : N.A Minimum Instruction Time : 0

Correct Marks : 5 Wrong Marks : 1

Question Key Details :

Key	Value
Comprehension	Comp1

दिए गए अनुच्छेद को ध्यानपूर्वक पढ़िए तथा प्रश्न का उत्तर दीजिए :

उच्च प्रौद्योगिकी उद्योग की संकल्पना

निर्माण क्रियाओं में उच्च प्रौद्योगिकी नवीनतम पीढ़ी है। इसमें उन्नत वैज्ञानिक एवं इंजीनियरिंग उत्पादकों का निर्माण गहन शोध एवं विकास के द्वारा किया जाता है। संपूर्ण श्रमिक शक्ति का अधिकतर भाग व्यावसायिक (सफेद कॉलर) श्रमिकों का होता है। ये उच्च, दक्ष एवं विशिष्ट व्यावसायिक श्रमिक वास्तविक उत्पादन (नीला कॉलर) श्रमिकों से संख्या में अधिकतम होते हैं। उच्च प्रौद्योगिकी उद्योग में यंत्रमानव, कंप्यूटर आधारित डिजाइन (कैड) तथा निर्माण, धातु पिघलाने एवं शोधन के इलेक्ट्रॉनिक नियंत्रण एवं नए रासायनिक व औषधीय उत्पादन प्रमुख स्थान रखते हैं।

इस भूदृश्य में विशाल भवनों, कारखानों एवं भंडार क्षेत्रों के स्थान पर आधुनिक, नीचे साफ-सुथरे, बिखरे कार्यालय एवं प्रयोगशालाएँ देखने को मिलती हैं। इस समय जो भी प्रादेशिक व स्थानीय विकास की योजनाएँ बन रही हैं उनमें नियोजित व्यवसाय पार्क का निर्माण किया जा रहा है।

वे उच्च प्रौद्योगिकी उद्योग जो प्रादेशिक संकेंद्रित हैं, आत्मनिर्भर एवं उच्च विशिष्टता लिए होते हैं उन्हें प्रौद्योगिक ध्रुव कहा जाता है। सेन फ्रांसिस्को के समीप सिलीकन घाटी एवं सियटल के समीप सिलीकन वन प्रौद्योगिक ध्रुव के अच्छे उदाहरण हैं। क्या भारत में कुछ प्रौद्योगिकी ध्रुव विकसित हो रहे हैं?

इन उद्योगों के कुल श्रमबल में कौन-से श्रमिक बड़े हिस्से को चिन्हित करते हैं?

- (1) नीला कॉलर
- (2) सफेद कॉलर
- (3) सुनहरा कॉलर
- (4) गुलाबी कॉलर

Options :

5402503449. 1

5402503450. 2

5402503451. 3

Question Number : 94 Question Id : 540250864 Question Type : MCQ Option Shuffling : No Is Question Mandatory : No Calculator : None Response Time : N.A Think Time : N.A Minimum Instruction Time : 0

Correct Marks : 5 Wrong Marks : 1

Question Key Details :

Key	Value
Comprehension	Comp1

Read the given passage and answer following question

Concept of High Technology Industry

High technology, or simply high-tech, is the latest generation of manufacturing activities. It is best understood as the application of intensive research and development (R and D) efforts leading to the manufacture of products of an advanced scientific and engineering character. Professional (white collar) workers make up a large share of the total workforce. These highly skilled specialists greatly outnumber the actual production (blue collar) workers. Robotics on the assembly line, computer-aided design (CAD) and manufacturing, electronic controls of smelting and refining processes, and the constant development of new chemical and pharmaceutical products are notable examples of a high-tech industry.

Neatly spaced, low, modern, dispersed, office-plant-lab buildings rather than massive assembly structures, factories and storage areas mark the high-tech industrial landscape. Planned business parks for high-tech start-ups have become part of regional and local development schemes.

High-tech industries which are regionally concentrated, self-sustained and highly specialised are called technopolies. The Silicon Valley near San Francisco and Silicon Forest near Seattle are examples of technopolies. Are some technopolies developing in India ?

Which of the following is **NOT** an example of high tech industry ?

- (1) Robotics
- (2) Pharmaceutical products
- (3) Paper industry
- (4) Computer Aided Designs

Options :

5402503453. 1

5402503454. 2

5402503455. 3

5402503456. 4

Question Number : 94 Question Id : 540250864 Question Type : MCQ Option Shuffling : No Is Question Mandatory : No Calculator : None Response Time : N.A Think Time : N.A Minimum Instruction Time : 0

Correct Marks : 5 Wrong Marks : 1

Question Key Details :

Key	Value
Comprehension	Comp1

दिए गए अनुच्छेद को ध्यानपूर्वक पढ़िए तथा प्रश्न का उत्तर दीजिए :

उच्च प्रौद्योगिकी उद्योग की संकल्पना

निर्माण क्रियाओं में उच्च प्रौद्योगिकी नवीनतम पीढ़ी है। इसमें उन्नत वैज्ञानिक एवं इंजीनियरिंग उत्पादकों का निर्माण गहन शोध एवं विकास के द्वारा किया जाता है। संपूर्ण श्रमिक शक्ति का अधिकतर भाग व्यावसायिक (सफेद कॉलर) श्रमिकों का होता है। ये उच्च, दक्ष एवं विशिष्ट व्यावसायिक श्रमिक वास्तविक उत्पादन (नीला कॉलर) श्रमिकों से संख्या में अधिकतम होते हैं। उच्च प्रौद्योगिकी उद्योग में यंत्रमानव, कंप्यूटर आधारित डिजाइन (कैड) तथा निर्माण, धातु पिघलाने एवं शोधन के इलेक्ट्रॉनिक नियंत्रण एवं नए रासायनिक व औषधीय उत्पादन प्रमुख स्थान रखते हैं।

इस भूदृश्य में विशाल भवनों, कारखानों एवं भंडार क्षेत्रों के स्थान पर आधुनिक, नीचे साफ-सुथरे, बिखरे कार्यालय एवं प्रयोगशालाएँ देखने को मिलती हैं। इस समय जो भी प्रादेशिक व स्थानीय विकास की योजनाएँ बन रही हैं उनमें नियोजित व्यवसाय पार्क का निर्माण किया जा रहा है।

वे उच्च प्रौद्योगिकी उद्योग जो प्रादेशिक संकेंद्रित हैं, आत्मनिर्भर एवं उच्च विशिष्टता लिए होते हैं उन्हें प्रौद्योगिक ध्रुव कहा जाता है। सेन फ्रांसिस्को के समीप सिलीकन घाटी एवं सियटल के समीप सिलीकन वन प्रौद्योगिक ध्रुव के अच्छे उदाहरण हैं। क्या भारत में कुछ प्रौद्योगिकी ध्रुव विकसित हो रहे हैं?

निम्न में से कौन-सा उच्च तकनीक उद्योगों का एक उदाहरण नहीं है?

- (1) रोबोटिक्स
- (2) औषधीय उत्पाद
- (3) कागज उद्योग
- (4) कम्प्यूटर सहायक डिजाइन

Options :

5402503453. 1

5402503454. 2

5402503455. 3

5402503456. 4

**Question Number : 95 Question Id : 540250865 Question Type : MCQ Option Shuffling : No Is
Question Mandatory : No Calculator : None Response Time : N.A Think Time : N.A Minimum
Instruction Time : 0**

Correct Marks : 5 Wrong Marks : 1

Question Key Details :

Key	Value
Comprehension	Comp1

Read the given passage and answer following question

Concept of High Technology Industry

High technology, or simply high-tech, is the latest generation of manufacturing activities. It is best understood as the application of intensive research and development (R and D) efforts leading to the manufacture of products of an advanced scientific and engineering character. Professional (white collar) workers make up a large share of the total workforce. These highly skilled specialists greatly outnumber the actual production (blue collar) workers. Robotics on the assembly line, computer-aided design (CAD) and manufacturing, electronic controls of smelting and refining processes, and the constant development of new chemical and pharmaceutical products are notable examples of a high-tech industry.

Neatly spaced, low, modern, dispersed, office-plant-lab buildings rather than massive assembly structures, factories and storage areas mark the high-tech industrial landscape. Planned business parks for high-tech start-ups have become part of regional and local development schemes.

High-tech industries which are regionally concentrated, self-sustained and highly specialised are called technopolies. The Silicon Valley near San Francisco and Silicon Forest near Seattle are examples of technopolies. Are some technopolies developing in India ?

Regionally concentrated, self sustained and highly specialised High Tech Industries are known as

- _____.
- (1) Technopolies
 - (2) Foot Loose Industries
 - (3) Megalopolis
 - (4) Conurbation

Options :

5402503457. 1

5402503458. 2

5402503459. 3

5402503460. 4

Question Number : 95 Question Id : 540250865 Question Type : MCQ Option Shuffling : No Is

Question Mandatory : No Calculator : None Response Time : N.A Think Time : N.A Minimum

Instruction Time : 0

Correct Marks : 5 Wrong Marks : 1

Question Key Details :

Key	Value
-----	-------

दिए गए अनुच्छेद को ध्यानपूर्वक पढ़िए तथा प्रश्न का उत्तर दीजिए :

उच्च प्रौद्योगिकी उद्योग की संकल्पना

निर्माण क्रियाओं में उच्च प्रौद्योगिकी नवीनतम पीढ़ी है। इसमें उन्नत वैज्ञानिक एवं इंजीनियरिंग उत्पादकों का निर्माण गहन शोध एवं विकास के द्वारा किया जाता है। संपूर्ण श्रमिक शक्ति का अधिकतर भाग व्यावसायिक (सफ़ेद कॉलर) श्रमिकों का होता है। ये उच्च, दक्ष एवं विशिष्ट व्यावसायिक श्रमिक वास्तविक उत्पादन (नीला कॉलर) श्रमिकों से संख्या में अधिकतम होते हैं। उच्च प्रौद्योगिकी उद्योग में यंत्रमानव, कंप्यूटर आधारित डिज़ाइन (कैड) तथा निर्माण, धातु पिघलाने एवं शोधन के इलेक्ट्रॉनिक नियंत्रण एवं नए रासायनिक व औषधीय उत्पादन प्रमुख स्थान रखते हैं।

इस भूदृश्य में विशाल भवनों, कारखानों एवं भंडार क्षेत्रों के स्थान पर आधुनिक, नीचे साफ़-सुथरे, बिखरे कार्यालय एवं प्रयोगशालाएँ देखने को मिलती हैं। इस समय जो भी प्रादेशिक व स्थानीय विकास की योजनाएँ बन रही हैं उनमें नियोजित व्यवसाय पार्क का निर्माण किया जा रहा है।

वे उच्च प्रौद्योगिकी उद्योग जो प्रादेशिक संकेंद्रित हैं, आत्मनिर्भर एवं उच्च विशिष्टता लिए होते हैं उन्हें प्रौद्योगिक ध्रुव कहा जाता है। सेन फ्रांसिस्को के समीप सिलीकन घाटी एवं सियटल के समीप सिलीकन वन प्रौद्योगिक ध्रुव के अच्छे उदाहरण हैं। क्या भारत में कुछ प्रौद्योगिकी ध्रुव विकसित हो रहे हैं?

क्षेत्रीय केन्द्रित, स्व पोषित तथा उच्च विशिष्टीकृत उच्च तकनीक उद्योग जाने जाते हैं _____।

- (1) प्रौद्योगिकी ध्रुव (टैक्नोपोलिस)
- (2) फुटकर / घुमक्कड़ उद्योग
- (3) मेगालोपोलिस
- (4) नगरीय संकुल

Options :

5402503457. 1

5402503458. 2

5402503459. 3

5402503460. 4

Sub-Section Number :

3

Sub-Section Id :

54025064

Question Shuffling Allowed :

No

Is Section Default? :

null


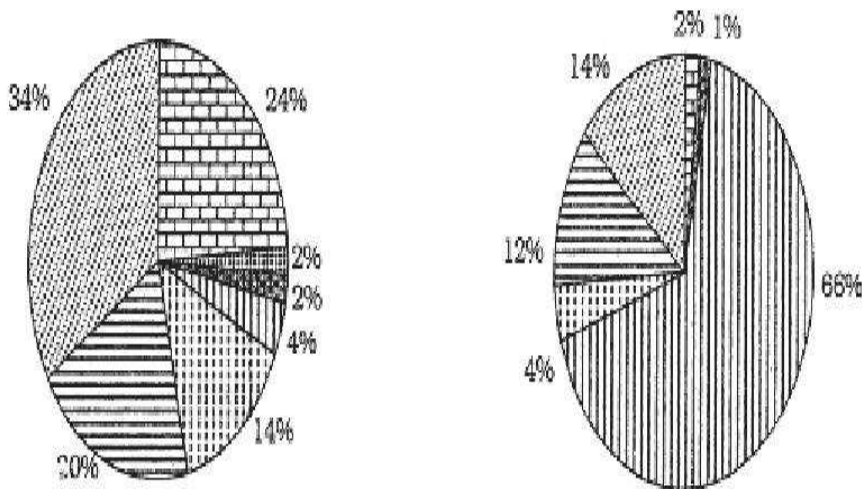
Question Number : 96 Question Id : 540250866 Question Type : MCQ Option Shuffling : No Is Question Mandatory : No Calculator : None Response Time : N.A Think Time : N.A Minimum Instruction Time : 0

Correct Marks : 5 Wrong Marks : 1

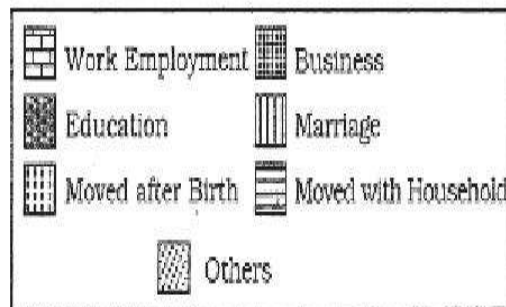
Question Key Details :

Key	Value
Comprehension	Comp2

Study the given diagram and answer the following question.



Reasons for Male Migration by Last Residence, India, 2011



Reasons for Female Migration by last Residence India, 2011

Which is the leading cause of male migration in India ?

- (1) Marriage
- (2) Business
- (3) Education
- (4) Work employment

Options :

5402503461. 1

5402503462. 2

5402503463. 3

5402503464. 4

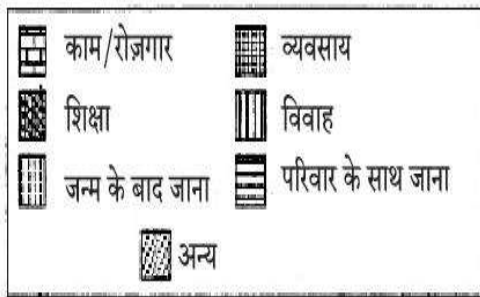
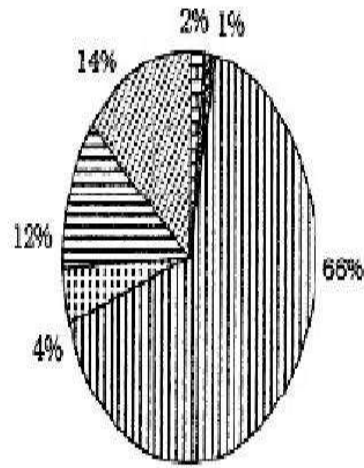
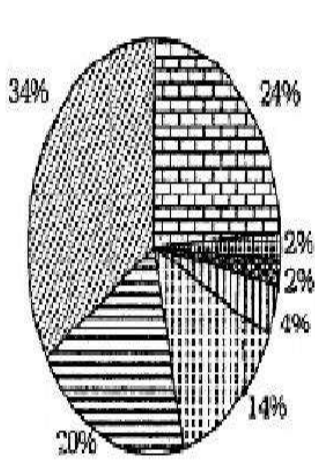
**Question Number : 96 Question Id : 540250866 Question Type : MCQ Option Shuffling : No Is
Question Mandatory : No Calculator : None Response Time : N.A Think Time : N.A Minimum
Instruction Time : 0**

Correct Marks : 5 Wrong Marks : 1

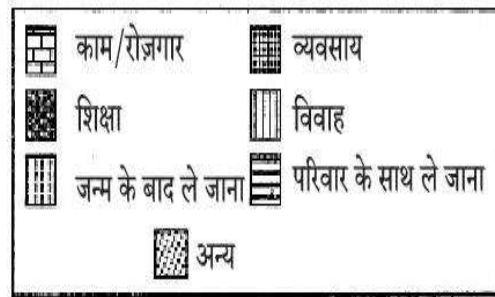
Question Key Details :

Key	Value
Comprehension	Comp2

नीचे दिए गए चित्र को ध्यानपूर्वक पढ़िए व निम्नलिखित का उत्तर दीजिए।



चित्र क : पिछले निवास के अनुसार पुरुष प्रवास के कारण भारत, 2011



चित्र ख : पिछले निवास के अनुसार स्त्री प्रवास के कारण भारत, 2011

भारत में पुरुष प्रवास का निम्न में से मुख्य कारण कौन-सा है?

- (1) विवाह
- (2) व्यापार
- (3) शिक्षा
- (4) कार्य रोजगार

Options :

5402503461. 1

5402503462. 2

5402503463. 3

5402503464. 4

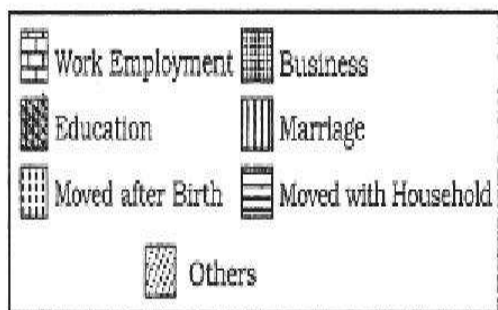
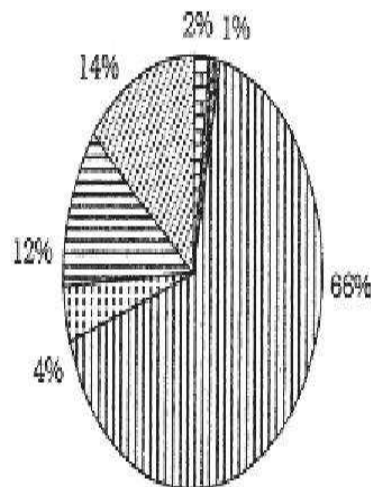
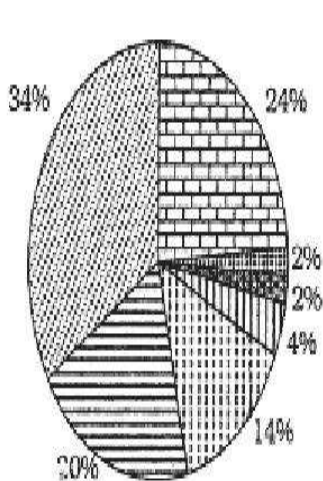
Instruction Time : 0

Correct Marks : 5 Wrong Marks : 1

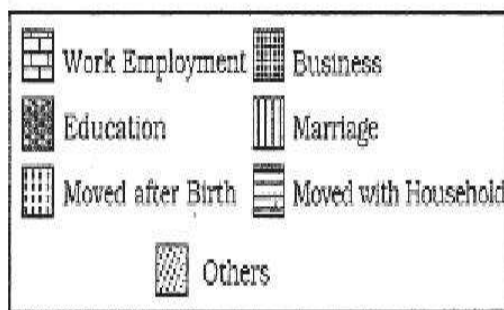
Question Key Details :

Key	Value
Comprehension	Comp2

Study the given diagram and answer the following question.



Reasons for Male Migration by Last Residence, India, 2011



Reasons for Female Migration by last Residence India, 2011

Which is the leading cause of female migration in India ?

- (1) Education
- (2) Business
- (3) Marriage
- (4) Work employment

Options :

5402503465. 1

5402503466. 2

5402503467. 3

5402503468. 4

Question Number : 97 Question Id : 540250867 Question Type : MCQ Option Shuffling : No Is

Question Mandatory : No Calculator : None Response Time : N.A Think Time : N.A Minimum

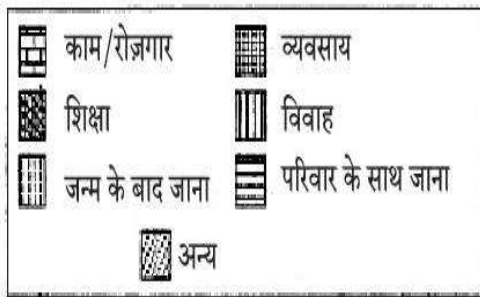
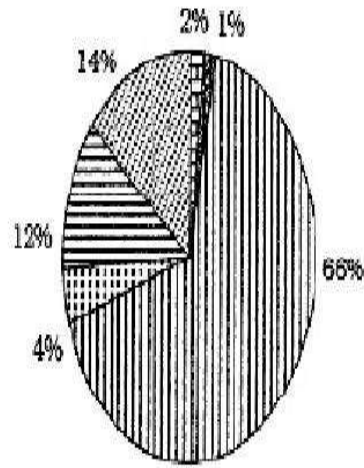
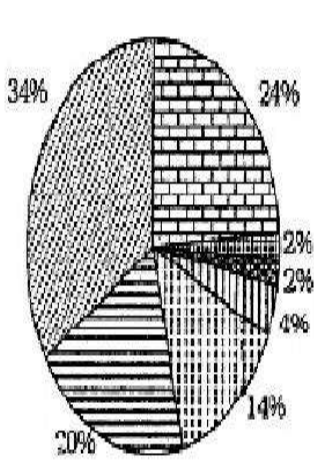
Instruction Time : 0

Correct Marks : 5 Wrong Marks : 1

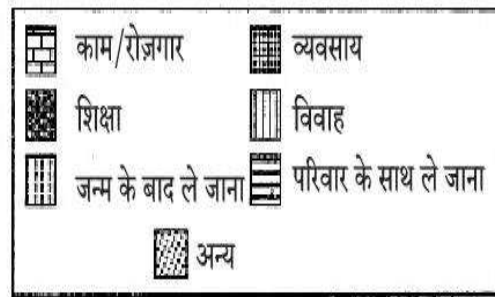
Question Key Details :

Key	Value
Comprehension	Comp2

नीचे दिए गए चित्र को ध्यानपूर्वक पढ़िए व निम्नलिखित का उत्तर दीजिए।



चित्र क : पिछले निवास के अनुसार पुरुष प्रवास के कारण भारत, 2011



चित्र ख : पिछले निवास के अनुसार स्त्री प्रवास के कारण भारत, 2011

भारत में स्त्री प्रवास का निम्न में से मुख्य कारण कौन-सा है ?

- (1) शिक्षा
- (2) व्यापार
- (3) विवाह
- (4) कार्य रोजगार

Options :

5402503465. 1

5402503466. 2

5402503467. 3

5402503468. 4

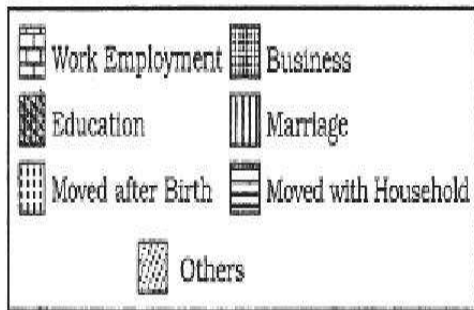
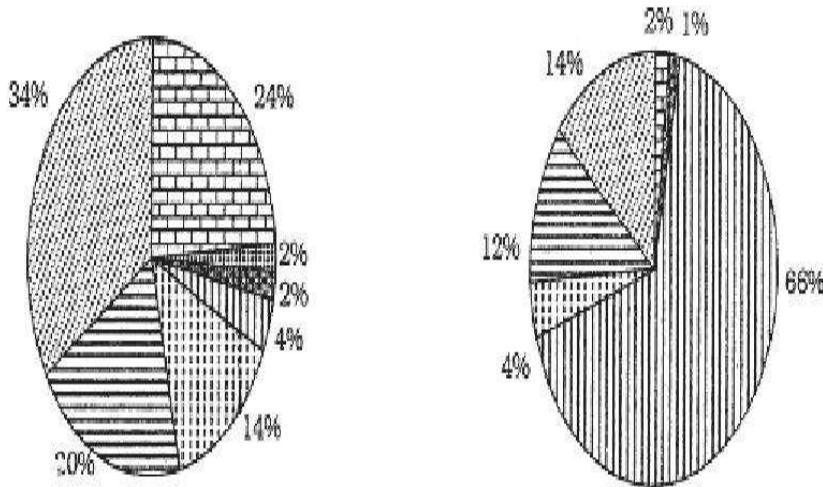
Instruction Time : 0

Correct Marks : 5 Wrong Marks : 1

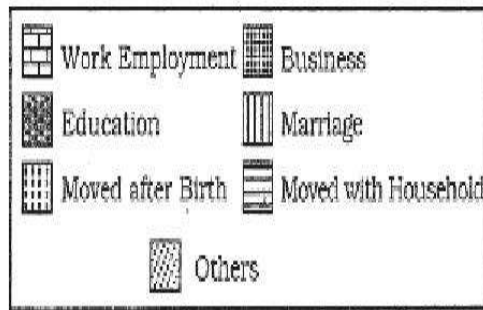
Question Key Details :

Key	Value
Comprehension	Comp2

Study the given diagram and answer the following question.



Reasons for Male Migration by Last Residence, India, 2011



Reasons for Female Migration by last Residence India, 2011

The diagram used to represent the relative share of reasons of migration is know as _____.

- (1) Percentage bar diagram
- (2) Pie diagram
- (3) Proportional circle diagram
- (4) Flow diagram

Options :

5402503469. 1

5402503470. 2

5402503471. 3

5402503472. 4

Question Number : 98 Question Id : 540250868 Question Type : MCQ Option Shuffling : No Is

Question Mandatory : No Calculator : None Response Time : N.A Think Time : N.A Minimum

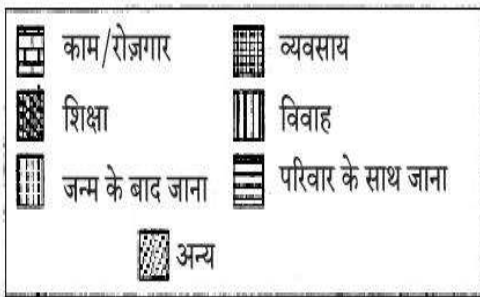
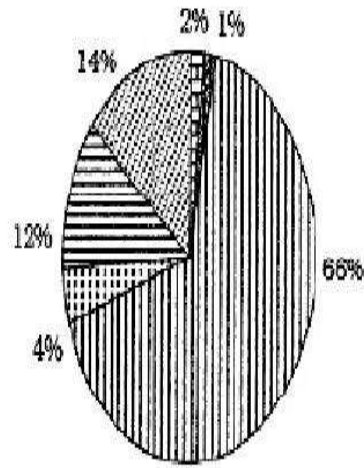
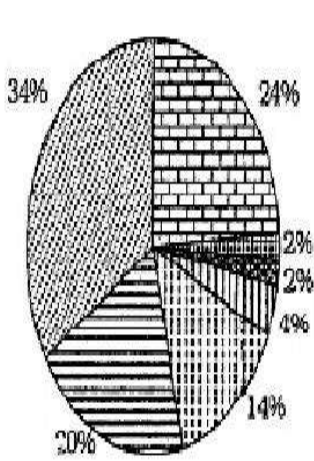
Instruction Time : 0

Correct Marks : 5 Wrong Marks : 1

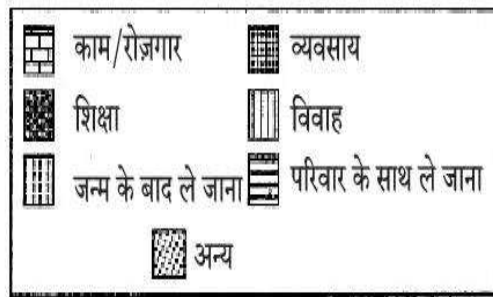
Question Key Details :

Key	Value
Comprehension	Comp2

नीचे दिए गए चित्र को ध्यानपूर्वक पढ़िए व निम्नलिखित का उत्तर दीजिए।



चित्र क : पिछले निवास के अनुसार पुरुष प्रवास के कारण भारत, 2011



चित्र ख : पिछले निवास के अनुसार स्त्री प्रवास के कारण भारत, 2011

वह आरेख जो प्रवास के कारणों का सापेक्षिक भाग दर्शाता है, जाना जाता है _____ ।

- (1) दंड आरेख
- (2) वृत्तचार्ट
- (3) आनुपातिक वृत्त चित्र
- (4) प्रवाह रेखाचित्र

Options :

5402503469. 1

5402503470. 2

5402503471. 3

5402503472. 4

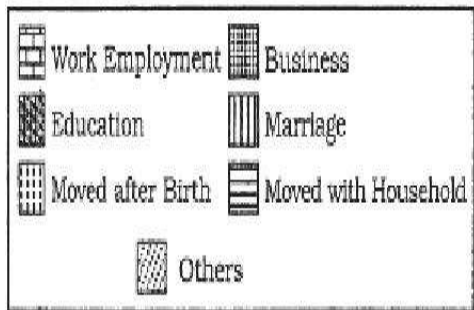
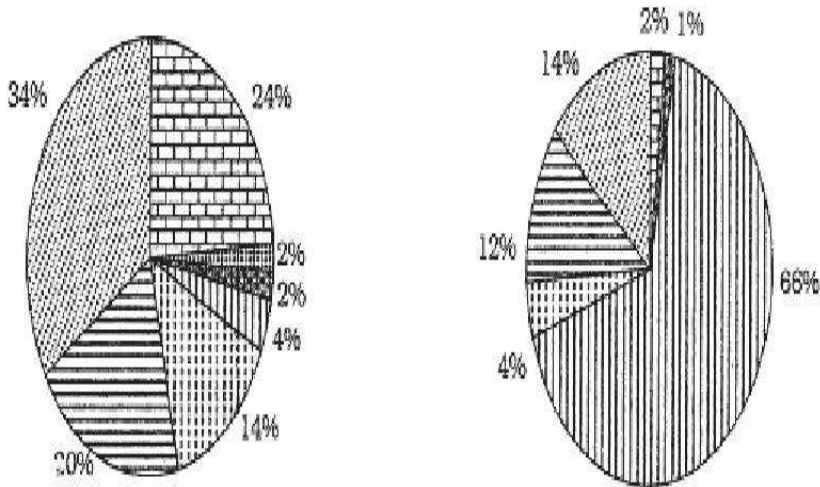
Instruction Time : 0

Correct Marks : 5 Wrong Marks : 1

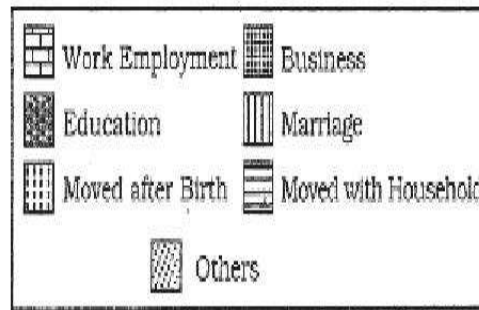
Question Key Details :

Key	Value
Comprehension	Comp2

Study the given diagram and answer the following question.



Reasons for Male Migration by Last Residence, India, 2011



Reasons for Female Migration by last Residence India, 2011

Which one of the following represents the percentage share of male migration due to education reason ?

- (1) 2%
- (2) 34%
- (3) 1%
- (4) 14%

Options :

5402503473. 1

5402503474. 2

5402503475. 3

5402503476. 4

Question Number : 99 Question Id : 540250869 Question Type : MCQ Option Shuffling : No Is

Question Mandatory : No Calculator : None Response Time : N.A Think Time : N.A Minimum

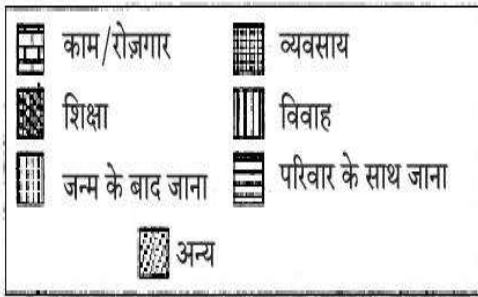
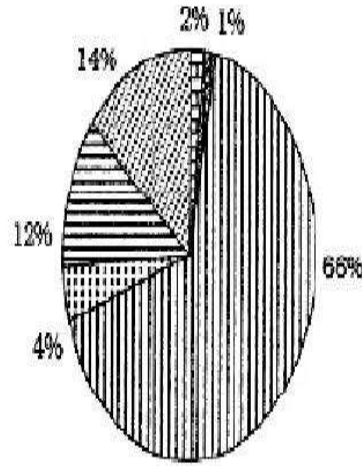
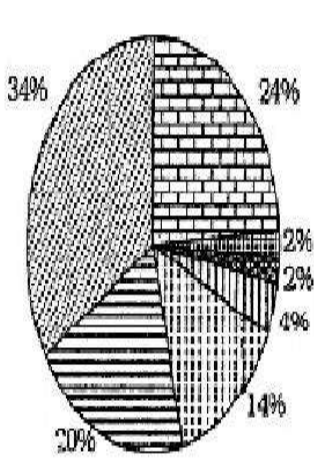
Instruction Time : 0

Correct Marks : 5 Wrong Marks : 1

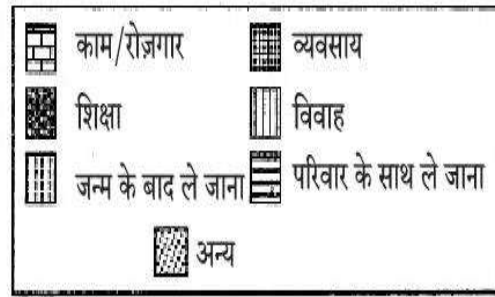
Question Key Details :

Key	Value
Comprehension	Comp2

नीचे दिए गए चित्र को ध्यानपूर्वक पढ़िए व निम्नलिखित का उत्तर दीजिए।



चित्र क : पिछले निवास के अनुसार पुरुष प्रवास के कारण भारत, 2011



चित्र ख : पिछले निवास के अनुसार स्त्री प्रवास के कारण भारत, 2011

निम्न में से कौन-सा शिक्षा के कारण पुरुष प्रवास के प्रतिशत भाग को दर्शाता है ?

- (1) 2%
- (2) 34%
- (3) 1%
- (4) 14%

Options :

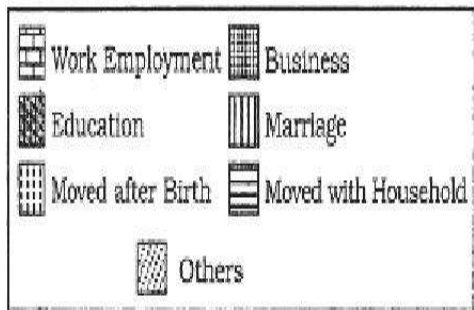
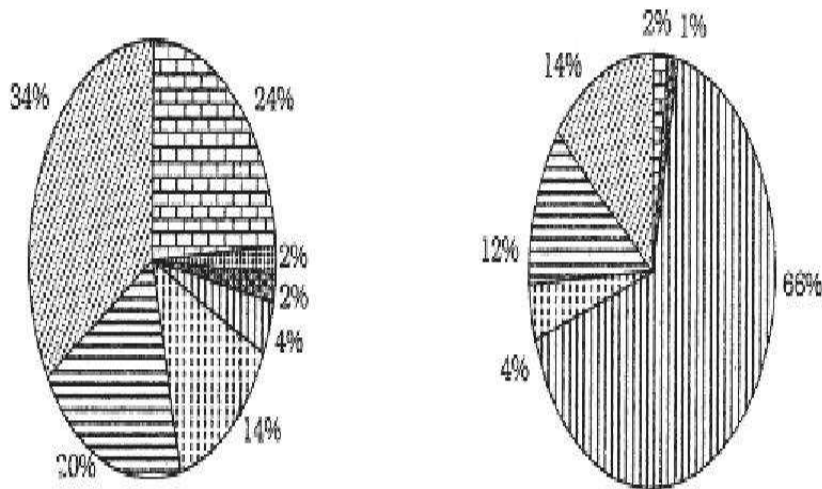
5402503473. 1
5402503474. 2
5402503475. 3
5402503476. 4

Correct Marks : 5 Wrong Marks : 1

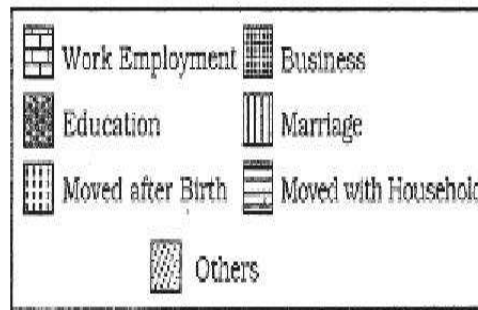
Question Key Details :

Key	Value
Comprehension	Comp2

Study the given diagram and answer the following question.



Reasons for Male Migration by Last Residence, India, 2011



Reasons for Female Migration by last Residence India, 2011

The percentage share for different reasons of female migration is calculated by dividing number of associated female migrants with _____.

- (1) Total population of India
- (2) Total female population
- (3) Total female migrants of India
- (4) Total migrants of India

Options :

5402503477. 1

5402503478. 2

5402503479. 3

5402503480. 4

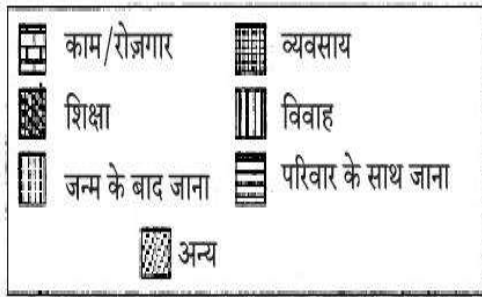
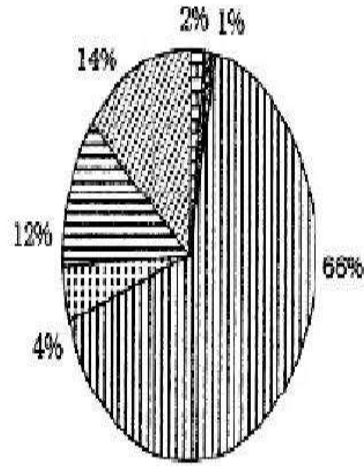
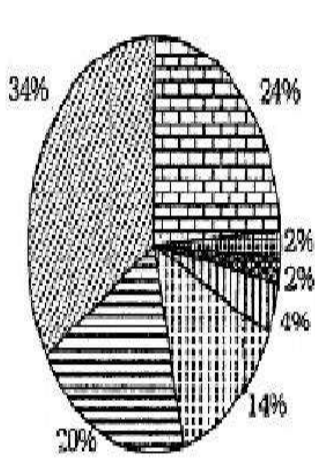
**Question Number : 100 Question Id : 540250870 Question Type : MCQ Option Shuffling : No Is
Question Mandatory : No Calculator : None Response Time : N.A Think Time : N.A Minimum
Instruction Time : 0**

Correct Marks : 5 Wrong Marks : 1

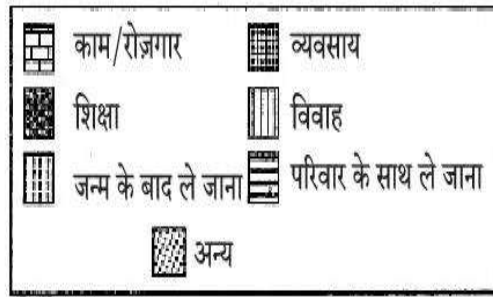
Question Key Details :

Key	Value
Comprehension	Comp2

नीचे दिए गए चित्र को ध्यानपूर्वक पढ़िए व निम्नलिखित का उत्तर दीजिए।



चित्र क : पिछले निवास के अनुसार पुरुष प्रवास के कारण भारत, 2011



चित्र ख : पिछले निवास के अनुसार स्त्री प्रवास के कारण भारत, 2011

विभिन्न कारणों से स्त्री प्रवास के प्रतिशत भाग की गणना _____ से भाग देकर की जाती है।

- (1) भारत की कुल जनसंख्या
- (2) कुल स्त्री जनसंख्या
- (3) भारत के कुल स्त्री प्रवासी
- (4) भारत के कुल प्रवासी

Options :

5402503477. 1

5402503478. 2

5402503479. 3

5402503480. 4